



TCSiON CAE

Notations :

- Options shown in **green** color and with  icon are correct.
- Options shown in **red** color and with  icon are incorrect.

Question Paper Name :	PC222206 GENERAL STUDIES AND GENERAL ABILITIES JL2222
Subject Name :	PC222206 GENERAL STUDIES AND GENERAL ABILITIES JL2222
Actual Answer Key :	Yes
Calculator :	None
Magnifying Glass Required? :	No
Ruler Required? :	No
Eraser Required? :	No
Scratch Pad Required? :	No
Rough Sketch/Notepad Required? :	No
Protractor Required? :	No
Show Watermark on Console? :	Yes
Highlighter :	No
Auto Save on Console?	Yes
Change Font Color :	No
Change Background Color :	No
Change Theme :	No
Help Button :	No
Show Reports :	No
Show Progress Bar :	No
Is this Group for Examiner? :	No
Examiner permission :	Cant View
Show Progress Bar? :	No

GENERAL STUDIES AND GENERAL ABILITIES





Section type :	Online
Section Negative Marks :	0
Enable Mark as Answered Mark for Review and Clear Response :	Yes
Maximum Instruction Time :	0
Is Section Default? :	null

Question Number : 1 Question Id : 630680366667 Is Question Mandatory : No Calculator : None Response Time : N.A Think Time : N.A Minimum Instruction Time : 0

Correct Marks : 1 Wrong Marks : 0

2023 జూలై లో 8వ భారత్-ఆస్ట్రేలియా డిఫెన్స్ పాలసీ చర్చలు ఎక్కడ జరిగాయి?

Options :



-  న్యూఢిల్లీ
-  బెంగళూరు
-  కాన్ బెర్రా
-  సిడ్నీ

Question Number : 1 Question Id : 630680366667 Is Question Mandatory : No Calculator : None Response Time : N.A Think Time : N.A Minimum Instruction Time : 0

Correct Marks : 1 Wrong Marks : 0

Where was the 8th India-Australia Defence Policy Talks held in July 2023?

Options :

-  New Delhi
-  Bengaluru
-  Canberra

4. ✖ Sydney

Question Number : 2 Question Id : 630680366668 Is Question Mandatory : No Calculator : None Response Time : N.A Think Time : N.A Minimum Instruction Time : 0

Correct Marks : 1 Wrong Marks : 0

మప్పట్ ప్రోటోకాల్ కు సంబంధించి కింది ప్రకటనలలో ఏది సరైనది?

- I. మప్పట్ ప్రోటోకాల్ ను 2003లో ఆఫ్రికన్ యూనియన్ హెడ్స్ ఆఫ్ స్టేట్స్ అసెంబ్లీ మరియు ప్రభుత్వం ఆమోదించింది.
- II. జూలై 2023 నాటికి, యాభై-రెండు (52) సభ్య దేశాలు ఈ ప్రోటోకాల్ ను ఆమోదించాయి.
- III. ప్రోటోకాల్ విస్తృతమైన మరియు ప్రగతిశీల మహిళల హక్కులను అందిస్తుంది.

Options :

1. ✖ I మరియు II మాత్రమే
2. ✔ I మరియు III మాత్రమే
3. ✖ II మరియు III మాత్రమే
4. ✖ I, II మరియు III

Question Number : 2 Question Id : 630680366668 Is Question Mandatory : No Calculator : None Response Time : N.A Think Time : N.A Minimum Instruction Time : 0

Correct Marks : 1 Wrong Marks : 0

Which of the following statements are correct regarding the Maputo Protocol?

- I. The Maputo Protocol was adopted by the Assembly of the African Union Heads of States and Government in 2003.
- II. As of July 2023, fifty-two (52) member states had ratified the Protocol.
- III. The Protocol provides for extensive and progressive women's rights.

Options :

1. ✖ Only I and II
2. ✔ Only I and III
3. ✖ Only II and III
4. ✖ I, II and III

Question Number : 3 Question Id : 630680366669 Is Question Mandatory : No Calculator : None Response Time : N.A Think Time : N.A Minimum Instruction Time : 0

Correct Marks : 1 Wrong Marks : 0

In June 2023, The Indian Prime Minister pitched for the inclusion of which of the following organisation in the G20 as a member?

Options :

1. ✖ SAARC
2. ✖ ASEAN
3. ✖ League of Arab States
4. ✔ African Union

Question Number : 3 Question Id : 630680366669 Is Question Mandatory : No Calculator : None Response Time : N.A Think Time : N.A Minimum Instruction Time : 0

Correct Marks : 1 Wrong Marks : 0

2023 జూన్ లో G20లో కింది వాటిలో ఏ సంస్థను సభ్యురాలిగా చేర్చుకోవాలని భారత ప్రధాన మంత్రి కోరారు?

Options :

1. ✖ SAARC
2. ✖ ASEAN
3. ✖ లీగ్ ఆఫ్ అరబ్ స్టేట్స్
4. ✔ ఆఫ్రికన్ యూనియన్

Question Number : 4 Question Id : 630680366670 Is Question Mandatory : No Calculator : None Response Time : N.A Think Time : N.A Minimum Instruction Time : 0

Correct Marks : 1 Wrong Marks : 0

సార్క్(SAARC)కు సంబంధించి కింది వాటిలో ఏది సరైన ప్రకటన?

- I. ఇది 8 డిసెంబర్ 1985న ఢాకాలో సార్క్ చార్టర్ పై సంతకం చేయడంతో స్థాపించబడింది.
- II. ఇందులో ఆరు సభ్య దేశాలు ఉన్నాయి.
- III. సార్క్ సచివాలయం ఖాట్మండులో ఉంది.

Options :

1. ✖ I మరియు II మాత్రమే
2. ✖ II మరియు III మాత్రమే
3. ✔ I మరియు III మాత్రమే

4. ✖ I, II మరియు III

Question Number : 4 Question Id : 630680366670 Is Question Mandatory : No Calculator : None Response Time : N.A Think Time : N.A Minimum Instruction Time : 0

Correct Marks : 1 Wrong Marks : 0

Which of the following statements are correct regarding SAARC?

- I. It was established with the signing of the SAARC charter in Dhaka on 8 December 1985.
 II. It comprises of six member states.
 III. The secretariat of the SAARC is in Kathmandu.

Options :

1. ✖ Only I and II
 2. ✖ Only II and III
 3. ✔ Only I and III
 4. ✖ I, II and III

Question Number : 5 Question Id : 630680366671 Is Question Mandatory : No Calculator : None Response Time : N.A Think Time : N.A Minimum Instruction Time : 0

Correct Marks : 1 Wrong Marks : 0

కింది ఏ భారతీయ నగరాల్లో 2023 ఏప్రిల్ లో 3డి ప్రింటింగ్ టెక్నాలజీని ఉపయోగించి పోస్టాఫీసును నిర్మిస్తున్నారు?

Options :

1. ✖ వారణాసి
 2. ✖ న్యూఢిల్లీ
 3. ✖ హైదరాబాద్
 4. ✔ బెంగళూరు

Question Number : 5 Question Id : 630680366671 Is Question Mandatory : No Calculator : None Response Time : N.A Think Time : N.A Minimum Instruction Time : 0

Correct Marks : 1 Wrong Marks : 0

In which of the following Indian cities, post office is being constructed using 3D printing technology in April 2023?

Options :

1. ✖ Varanasi
 2. ✖ New Delhi
 3. ✖ Hyderabad
 4. ✔ Bengaluru

Question Number : 6 Question Id : 630680366672 Is Question Mandatory : No Calculator : None Response Time : N.A Think Time : N.A Minimum Instruction Time : 0

Correct Marks : 1 Wrong Marks : 0

భారతదేశపు మొట్టమొదటి సింథటిక్ రబ్బరు కర్మాగారం 2013లో _____ లో స్థాపించబడింది.

Options :

1. ✖ ఉత్తర ప్రదేశ్
 2. ✖ మధ్యప్రదేశ్
 3. ✔ హర్యానా
 4. ✖ తమిళనాడు

Question Number : 6 Question Id : 630680366672 Is Question Mandatory : No Calculator : None Response Time : N.A Think Time : N.A Minimum Instruction Time : 0

Correct Marks : 1 Wrong Marks : 0

India's first synthetic rubber plant was established in _____ in 2013.

Options :

1. ✖ Uttar Pradesh
 2. ✖ Madhya Pradesh
 3. ✔ Haryana
 4. ✖ Tamil Nadu

Question Number : 7 Question Id : 630680366673 Is Question Mandatory : No Calculator : None Response Time : N.A Think Time : N.A Minimum Instruction Time : 0

Correct Marks : 1 Wrong Marks : 0

“వన్ వీక్ వన్ ల్యాబ్” ప్రచార కార్యక్రమం 2023 గురించి కింది ప్రకటనలలో ఏది సరైనది?

I. CSIR వన్ వీక్ వన్ ల్యాబ్ ప్రచారాన్ని నిర్వహిస్తుంది.

II. ఈ ప్రచారంలో, దేశవ్యాప్తంగా విస్తరించి ఉన్న CSIR యొక్క 37 ప్రఖ్యాత లేబొరేటరీలు/సంస్థలు తమ ప్రత్యేక ఆవిష్కరణలు మరియు సాంకేతిక సంచలనాలను భారతదేశ ప్రజలకు ప్రదర్శిస్తాయి.

Options :

1. * I మాత్రమే
2. * II మాత్రమే
3. ✓ I మరియు II రెండూ
4. * I కానీ లేదా II కానీ కాదు

Question Number : 7 Question Id : 630680366673 Is Question Mandatory : No Calculator : None Response Time : N.A Think Time : N.A Minimum Instruction Time : 0

Correct Marks : 1 Wrong Marks : 0

Which of the following statements is correct about “one week one lab” campaign 2023?

I. CSIR organised one week one lab campaign.

II. In this campaign, each of the 37 premier laboratories/institute of CSIR spread across the country will showcase their exclusive innovations and technological break throughs to the people of India.

Options :

1. * Only I
2. * Only II
3. ✓ Both I and II
4. * Neither I nor II

Question Number : 8 Question Id : 630680366674 Is Question Mandatory : No Calculator : None Response Time : N.A Think Time : N.A Minimum Instruction Time : 0

Correct Marks : 1 Wrong Marks : 0

ISRO యొక్క సౌండింగ్ రాకెట్ల గురించి కింది వాటిలో సరైనది ఏది?

I. ఇస్రో రోహిణి సిరీస్ అనే సౌండింగ్ రాకెట్ల శ్రేణిని అభివృద్ధి చేసింది.

II. RH – 200, RH – 300 మరియు RH – 560 ISRO యొక్క ముఖ్యమైన సౌండింగ్ రాకెట్లు.

Options :

1. * I మాత్రమే
2. * II మాత్రమే
3. ✓ I మరియు II రెండూ
4. * I కానీ లేదా II కానీ కాదు

Question Number : 8 Question Id : 630680366674 Is Question Mandatory : No Calculator : None Response Time : N.A Think Time : N.A Minimum Instruction Time : 0

Correct Marks : 1 Wrong Marks : 0

Which of the following statements is correct about Sounding Rockets of ISRO?

I. ISRO has developed a series of Sounding Rockets called Rohini Series.

II. RH – 200, RH – 300 and RH – 560 are Important Sounding Rockets of ISRO.

Options :

1. * Only I
2. * Only II
3. ✓ Both I and II
4. * Neither I nor II

Question Number : 9 Question Id : 630680366675 Is Question Mandatory : No Calculator : None Response Time : N.A Think Time : N.A Minimum Instruction Time : 0

Correct Marks : 1 Wrong Marks : 0

భారత ప్రభుత్వ యాక్సిలరేట్ విజ్ఞాన్ పథకం గురించి కింది వాటిలో సరైనది ఏది?

I. ఇది భారత ప్రభుత్వ సైన్స్ అండ్ టెక్నాలజీ విభాగంచే నిర్వహించబడుతుంది

II. ఇది విశ్వవిద్యాలయాలు/ఇన్స్టిట్యూట్లు/గుర్తింపు పొందిన కళాశాలల విద్యార్థులను లక్ష్యంగా పెట్టుకుంది

Options :

1. * I మాత్రమే
2. * II మాత్రమే
3. ✓ I మరియు II రెండూ
4. * I కానీ లేదా II కానీ కాదు

Question Number : 9 Question Id : 630680366675 Is Question Mandatory : No Calculator : None Response Time : N.A Think

Time : N.A Minimum Instruction Time : 0

Correct Marks : 1 Wrong Marks : 0

Which of the following is correct about Accelerate Vigyan Scheme of Government of India?

- I. It is run by Department of Science and Technology, Govt of India
II. It's targeted Audience are Students from the Universities/Institutes/Recognised colleges

Options :

1. ✘ Only I
2. ✘ Only II
3. ✔ Both I and II
4. ✘ Neither I nor II

Question Number : 10 Question Id : 630680366676 Is Question Mandatory : No Calculator : None Response Time : N.A Think Time : N.A Minimum Instruction Time : 0

Correct Marks : 1 Wrong Marks : 0

POCSO (సవరణ) చట్టం, 2019 సందర్భంలో, POCSO యొక్క విస్తరణ రూపం ఏమిటి?

Options :

1. ✔ ప్రొటెక్షన్ ఆఫ్ చిల్డ్రన్ ఫ్రం సెక్సువల్ అఫెన్సెస్ (Protection of Children from Sexual Offences)
2. ✘ ప్రొటెక్షన్ ఆఫ్ చిల్డ్రన్ ఫ్రం సోషల్ ఓవర్ఎక్స్ప్లోయిటేషన్ (Protection of Children from Social Overexploitation)
3. ✘ ప్రీవెన్షన్ ఆఫ్ చిల్డ్రన్ ఫ్రం సెక్సువల్ అఫెన్సెస్ (Prevention of Children from Sexual Offences)
4. ✘ ప్రీవెన్షన్ ఆఫ్ చిల్డ్రన్ ఫ్రం సోషల్ ఓవర్ఎక్స్ప్లోయిటేషన్ (Prevention of Children from Social Overexploitation)

Question Number : 10 Question Id : 630680366676 Is Question Mandatory : No Calculator : None Response Time : N.A Think Time : N.A Minimum Instruction Time : 0

Correct Marks : 1 Wrong Marks : 0

In the context of POCSO (Amendment) Act, 2019, what is the full form of POCSO?

Options :

1. ✔ Protection of Children from Sexual Offences.
2. ✘ Protection of Children from Social Overexploitation.
3. ✘ Prevention of Children from Sexual Offences.
4. ✘ Prevention of Children from Social Overexploitation.

Question Number : 11 Question Id : 630680366677 Is Question Mandatory : No Calculator : None Response Time : N.A Think Time : N.A Minimum Instruction Time : 0

Correct Marks : 1 Wrong Marks : 0

నేషనల్ అచీవ్మెంట్ సర్వే 2021కి సంబంధించి కింది ప్రకటనలలో ఏది సరైనది?

- I. ఇది నవంబర్ 13, 2021న దేశవ్యాప్తంగా నిర్వహించబడింది.
II. ఇది 3, 5, 8 మరియు 10 తరగతులకు మాత్రమే నిర్వహించబడింది.

Options :

1. ✘ I మాత్రమే
2. ✘ II మాత్రమే
3. ✔ I మరియు II రెండూ
4. ✘ I కానీ లేదా II కానీ కాదు

Question Number : 11 Question Id : 630680366677 Is Question Mandatory : No Calculator : None Response Time : N.A Think Time : N.A Minimum Instruction Time : 0

Correct Marks : 1 Wrong Marks : 0

Which of the following statements is correct about National Achievement Survey 2021?

- I. It has been conducted throughout the country on November 13, 2021.
II. It has been conducted only for class 3, 5, 8 and 10.

Options :

1. ✘ Only I
2. ✘ Only II
3. ✔ Both I and II
4. ✘ Neither I nor II

Question Number : 12 Question Id : 630680366678 Is Question Mandatory : No Calculator : None Response Time : N.A Think Time : N.A Minimum Instruction Time : 0

Correct Marks : 1 Wrong Marks : 0

Which of the following statements is correct about NAMASTE Scheme?

- I. It is joint venture of Ministry of Social Justice and Empowerment with Ministry of Housing and Urban affairs.
 II. This Scheme is for sanitation workers.
 III. It was launched in August 2022.

Options :

1. ✖ Only I and II
2. ✖ Only II and III
3. ✖ Both I and III
4. ✔ I, II and III

Question Number : 12 Question Id : 630680366678 Is Question Mandatory : No Calculator : None Response Time : N.A Think Time : N.A Minimum Instruction Time : 0

Correct Marks : 1 Wrong Marks : 0

నమస్తే (NAMASTE) పథకం గురించి కింది వాటిలో సరైన ప్రకటన ఏది?

- I. ఇది గృహనిర్మాణం, పట్టణ వ్యవహారాల మంత్రిత్వ శాఖతో సామాజిక న్యాయం, సాధికారత మంత్రిత్వ శాఖ యొక్క జాయింట్ వెంచర్.
- II. ఈ పథకం పారిశుధ్య కార్మికుల కోసం.
- III. ఇది 2022 ఆగస్టులో ప్రారంభించబడింది.

Options :

1. ✖ I మరియు II మాత్రమే
2. ✖ II మరియు III మాత్రమే
3. ✖ I మరియు III రెండూ
4. ✔ I, II మరియు III

Question Number : 13 Question Id : 630680366679 Is Question Mandatory : No Calculator : None Response Time : N.A Think Time : N.A Minimum Instruction Time : 0

Correct Marks : 1 Wrong Marks : 0

దిగువ వాటిని జతపర్చండి:

	పథకం		దృష్టి పెట్టిన రంగం
I	యశస్వి ప్రవేశ పరీక్ష - 2023	1	సమగ్ర పునరావాసం
II	PM – DAKSH యోజన	2	చదువు
III	స్మైల్(SMILE) పథకం	3	నైపుణ్యాభివృద్ధి

Options :

1. ✖ I-1, II-2, III-3
2. ✖ I-2, II-1, III-3
3. ✖ I-3, II-2, III-1
4. ✔ I-2, II-3, III-1

Question Number : 13 Question Id : 630680366679 Is Question Mandatory : No Calculator : None Response Time : N.A Think Time : N.A Minimum Instruction Time : 0

Correct Marks : 1 Wrong Marks : 0

Match the following.

	Scheme		Focus Area
I	YASASVI Entrance Test – 2023	1	Comprehensive Rehabilitation
II	PM – DAKSH Yojana	2	Education
III	SMILE Scheme	3	Skill Development

Options :

1. ✖ I-1, II-2, III-3
2. ✖ I-2, II-1, III-3
3. ✖ I-3, II-2, III-1

4. ✓ I-2, II-3, III-1

Question Number : 14 Question Id : 630680366680 Is Question Mandatory : No Calculator : None Response Time : N.A Think Time : N.A Minimum Instruction Time : 0

Correct Marks : 1 Wrong Marks : 0

'రసాయనం పేరు - రసాయన ఫార్ములా' యొక్క కింది జతలలో ఏది సరిగ్గా జతపర్చబడింది?

I. బ్లీచింగ్ పౌడర్ - CaOCl_2

II. అమోనియం హైడ్రాక్సైడ్ - NH_4OH_2

Options :

1. ✓ I మాత్రమే

2. ✗ II మాత్రమే

3. ✗ I మరియు II రెండూ

4. ✗ I కానీ లేదా II కానీ కాదు

Question Number : 14 Question Id : 630680366680 Is Question Mandatory : No Calculator : None Response Time : N.A Think Time : N.A Minimum Instruction Time : 0

Correct Marks : 1 Wrong Marks : 0

Which of the following pairs of 'chemical name – chemical formula' is/are correctly matched?

I. Bleaching powder – CaOCl_2

II. Ammonium hydroxide – NH_4OH_2

Options :

1. ✓ Only I

2. ✗ Only II

3. ✗ Both I and II

4. ✗ Neither I nor II

Question Number : 15 Question Id : 630680366681 Is Question Mandatory : No Calculator : None Response Time : N.A Think Time : N.A Minimum Instruction Time : 0

Correct Marks : 1 Wrong Marks : 0

దిగువ వాటిని జతచేయండి.

	సహజ వనరు		ఆమ్లము
I	పెరుగు	1	ఆక్సాలిక్ యాసిడ్
II	నిమ్మకాయ	2	సిట్రిక్ యాసిడ్
III	టమాట	3	లాక్టిక్ యాసిడ్

Options :

1. ✗ I-1, II-2, III-3

2. ✗ I-2, II-1, III-3

3. ✓ I-3, II-2, III-1

4. ✗ I-1, II-3, III-2

Question Number : 15 Question Id : 630680366681 Is Question Mandatory : No Calculator : None Response Time : N.A Think Time : N.A Minimum Instruction Time : 0

Correct Marks : 1 Wrong Marks : 0

Match the following.

	Natural Source		Acid
I	Curd	1	Oxalic Acid
II	Lemon	2	Citric Acid
III	Tomato	3	Lactic Acid

Options :

1. ✘ I-1, II-2, III-3
2. ✘ I-2, II-1, III-3
3. ✔ I-3, II-2, III-1
4. ✘ I-1, II-3, III-2

Question Number : 16 Question Id : 630680366682 Is Question Mandatory : No Calculator : None Response Time : N.A Think Time : N.A Minimum Instruction Time : 0

Correct Marks : 1 Wrong Marks : 0

వ్యవసాయ రసాయనాల ప్రభావాలకు సంబంధించి కింది వాటిలో సరైనది ఏది?

- I. పంట ఉత్పత్తిని పెంపొందించడానికి అసేంద్రీయ ఎరువులు మరియు పురుగుమందుల వాడకం అనేక రెట్లు పెరిగింది.
- II. ఇవి నేల పర్యావరణ వ్యవస్థలోని లక్ష్యం చేయబడని జీవులకు కూడా విషపూరితమైనవి?

Options :

1. ✘ I మాత్రమే
2. ✘ II మాత్రమే
3. ✔ I మరియు II రెండూ
4. ✘ I కానీ లేదా II కానీ కాదు

Question Number : 16 Question Id : 630680366682 Is Question Mandatory : No Calculator : None Response Time : N.A Think Time : N.A Minimum Instruction Time : 0

Correct Marks : 1 Wrong Marks : 0

Which of the following is correct about the effects of agrochemicals?

- I. Use of inorganic fertilisers and pesticides has increased manifold for enhancing crop production.
- II. These are also toxic to non-target organisms that are important component of the soil ecosystem?

Options :

1. ✘ Only I
2. ✘ Only II
3. ✔ Both I and II
4. ✘ Neither I nor II

Question Number : 17 Question Id : 630680366683 Is Question Mandatory : No Calculator : None Response Time : N.A Think Time : N.A Minimum Instruction Time : 0

Correct Marks : 1 Wrong Marks : 0

కిందివాటిలో వర్షపు నీటిని సేకరించి, తర్వాత ఉపయోగం కోసం నిల్వ చేయడం ద్వారా నీటి లభ్యతను పెంచే మార్గం ఏది?

Options :

1. ✘ వర్షపు నీటి ఉపయోగం
2. ✘ వర్షపు నీటి నిర్వహణ
3. ✘ వర్షపు నీటి శుద్ధీకరణ
4. ✔ వర్షపు నీటి హార్వెస్టింగ్

Question Number : 17 Question Id : 630680366683 Is Question Mandatory : No Calculator : None Response Time : N.A Think Time : N.A Minimum Instruction Time : 0

Correct Marks : 1 Wrong Marks : 0

Which one of the following is a way of increasing the availability of water by collecting rainwater and storing it for later use?

Options :

1. ✘ Rainwater utility
2. ✘ Rainwater management
3. ✘ Rainwater treatment
4. ✔ Rainwater harvesting

Question Number : 18 Question Id : 630680366684 Is Question Mandatory : No Calculator : None Response Time : N.A Think Time : N.A Minimum Instruction Time : 0

Correct Marks : 1 Wrong Marks : 0

కింది వాటిలో ఏ పోషకాల లోపం వల్ల ఎముకలు మరియు దంత క్షయం సంభవిస్తుంది?

Options :

1. ✘ ఇనుము
2. ✘ అయోడిన్
3. ✔ కాల్షియం

4. ✖ విటమిన్ B1

Question Number : 18 Question Id : 630680366684 Is Question Mandatory : No Calculator : None Response Time : N.A Think Time : N.A Minimum Instruction Time : 0

Correct Marks : 1 Wrong Marks : 0

Bone and tooth decay is caused due to the deficiency of which of the following nutrients?

Options :

1. ✖ Iron
2. ✖ Iodine
3. ✔ Calcium
4. ✖ Vitamin B1

Question Number : 19 Question Id : 630680366685 Is Question Mandatory : No Calculator : None Response Time : N.A Think Time : N.A Minimum Instruction Time : 0

Correct Marks : 1 Wrong Marks : 0

దిగువ వాటిని జతపర్చండి.

	వర్గం		జంతువులు
I	అనిలిడా	1	తేలు
II	ఆర్థ్రోపోడా	2	జలగ
III	మొలస్కా	3	ఆక్టోపస్

Options :

1. ✖ I-3, II-2, III-1
2. ✔ I-2, II-1, III-3
3. ✖ I-1, II-3, III-2
4. ✖ I-2, II-3, III-1

Question Number : 19 Question Id : 630680366685 Is Question Mandatory : No Calculator : None Response Time : N.A Think Time : N.A Minimum Instruction Time : 0

Correct Marks : 1 Wrong Marks : 0

Match the following.

	Phylum		Animals
I	Annelida	1	Scorpion
II	Arthropoda	2	Leech
III	Mollusca	3	Octopus

Options :

1. ✖ I-3, II-2, III-1
2. ✔ I-2, II-1, III-3
3. ✖ I-1, II-3, III-2
4. ✖ I-2, II-3, III-1

Question Number : 20 Question Id : 630680366686 Is Question Mandatory : No Calculator : None Response Time : N.A Think Time : N.A Minimum Instruction Time : 0

Correct Marks : 1 Wrong Marks : 0

కింది వాటిలో ఏ 'వర్గం - మొక్కలు' జత సరిగ్గా జతపర్చబడింది?

- I. సెరిడోఫైటాలు - మోస్లు
- II. బ్రయోఫైటాలు - లివర్ వోర్మ్లు

Options :

1. ✖ I మాత్రమే
2. ✔ II మాత్రమే

3. ✖ I మరియు II రెండూ
4. ✖ I కానీ లేదా II కానీ కాదు

Question Number : 20 Question Id : 630680366686 Is Question Mandatory : No Calculator : None Response Time : N.A Think Time : N.A Minimum Instruction Time : 0

Correct Marks : 1 Wrong Marks : 0

Which of the following pairs of 'Phylum – Plants' is correctly matched?

- I. Pteridophytes – Mosses
- II. Bryophytes – Liverworts

Options :

1. ✖ Only I
2. ✔ Only II
3. ✖ Both I and II
4. ✖ Neither I nor II

Question Number : 21 Question Id : 630680366687 Is Question Mandatory : No Calculator : None Response Time : N.A Think Time : N.A Minimum Instruction Time : 0

Correct Marks : 1 Wrong Marks : 0

Which of the following is the correct outcome of use of remote sensing in flooded areas?

- I. It provides quantitative information on the damages that have occurred.
- II. The flood wave progression and recession can be continuously monitored.

Options :

1. ✖ Only I
2. ✖ Only II
3. ✔ Both I and II
4. ✖ Neither I nor II

Question Number : 21 Question Id : 630680366687 Is Question Mandatory : No Calculator : None Response Time : N.A Think Time : N.A Minimum Instruction Time : 0

Correct Marks : 1 Wrong Marks : 0

వరద ప్రాంతాల్లో రిమోట్ సెన్సింగ్ను ఉపయోగించడం వల్ల కింది వాటిలో సరైన ఫలితం ఏది?

- I. ఇది సంభవించిన నష్టాలపై పరిమాణాత్మక సమాచారాన్ని అందిస్తుంది.
- II. వరద పురోగతి మరియు తగ్గుదలను నిరంతరం పర్యవేక్షించవచ్చు.

Options :

1. ✖ I మాత్రమే
2. ✖ II మాత్రమే
3. ✔ I మరియు II రెండూ
4. ✖ I కానీ II కానీ కాదు

Question Number : 22 Question Id : 630680366688 Is Question Mandatory : No Calculator : None Response Time : N.A Think Time : N.A Minimum Instruction Time : 0

Correct Marks : 1 Wrong Marks : 0

కింది ప్రకటనలలో ఏది సరైనది?

- I. రైల్వే మంత్రిత్వ శాఖ అనేది రైల్వే ప్రమాదాలకు నోడల్ మంత్రిత్వ శాఖ.
- II. జీవ విపత్తులకు ఆరోగ్య మంత్రిత్వ శాఖ నోడల్ మంత్రిత్వ శాఖ.
- III. రసాయన విపత్తులకు హోం మంత్రిత్వ శాఖ నోడల్ మంత్రిత్వ శాఖ.

Options :

1. ✔ I మరియు II మాత్రమే
2. ✖ II మరియు III మాత్రమే
3. ✖ I మరియు III మాత్రమే
4. ✖ I, II మరియు III

Question Number : 22 Question Id : 630680366688 Is Question Mandatory : No Calculator : None Response Time : N.A Think Time : N.A Minimum Instruction Time : 0

Correct Marks : 1 Wrong Marks : 0

Which of the following statements are correct?

- I. Ministry of Railways is nodal ministry for railway accidents.
- II. Ministry of Health is nodal ministry for biological disaster.
- III. Ministry of Home Affairs is nodal ministry for chemical disaster.

Options :

1. ✓ Only I and II
2. ✗ Only II and III
3. ✗ Only I and III
4. ✗ I, II and III

Question Number : 23 Question Id : 630680366689 Is Question Mandatory : No Calculator : None Response Time : N.A Think Time : N.A Minimum Instruction Time : 0

Correct Marks : 1 Wrong Marks : 0

కింది వాటిలో ఏది భౌగోళిక విపత్తు కాదు?

Options :

1. ✗ భూకంపాలు
2. ✗ పెద్ద మంటలు
3. ✗ కొండచరియలు విరిగిపడడం
4. ✓ కరువులు

Question Number : 23 Question Id : 630680366689 Is Question Mandatory : No Calculator : None Response Time : N.A Think Time : N.A Minimum Instruction Time : 0

Correct Marks : 1 Wrong Marks : 0

Which of the followings is NOT a Geological Disaster?

Options :

1. ✗ Earthquakes
2. ✗ Large fires
3. ✗ Landslides
4. ✓ Droughts

Question Number : 24 Question Id : 630680366690 Is Question Mandatory : No Calculator : None Response Time : N.A Think Time : N.A Minimum Instruction Time : 0

Correct Marks : 1 Wrong Marks : 0

UN పేరుపెట్టిన IDNDR యొక్క విస్తరణ రూపం ఏమిటి?

Options :

1. ✓ ఇంటర్నేషనల్ డికేడ్ ఫర్ నేచురల్ డిజాస్టర్ రిడక్షన్ (International Decade for Natural Disaster Reduction)
2. ✗ ఇండియన్ డికేడ్ ఫర్ నేచురల్ డిజాస్టర్ రిడక్షన్ (Indian Decade for Natural Disaster Reduction)
3. ✗ ఇండియన్ డెవలప్ మెంట్ ఫర్ నేచురల్ డిజాస్టర్ రిడక్షన్ (Indian Development for Natural Disaster Reduction)
4. ✗ ఇంటర్నేషనల్ డెవలప్ మెంట్ ఫర్ నేచురల్ డిజాస్టర్ రిడక్షన్ (International Development for Natural Disaster Reduction)

Question Number : 24 Question Id : 630680366690 Is Question Mandatory : No Calculator : None Response Time : N.A Think Time : N.A Minimum Instruction Time : 0

Correct Marks : 1 Wrong Marks : 0

What is the full form of IDNDR named by the UN?

Options :

1. ✓ International Decade for Natural Disaster Reduction
2. ✗ Indian Decade for Natural Disaster Reduction
3. ✗ Indian Development for Natural Disaster Reduction
4. ✗ International Development for Natural Disaster Reduction

Question Number : 25 Question Id : 630680366691 Is Question Mandatory : No Calculator : None Response Time : N.A Think Time : N.A Minimum Instruction Time : 0

Correct Marks : 1 Wrong Marks : 0

కింది వాటిలో ఏది వాయు కాలుష్య కారకం కాదు?

Options :

1. ✗ సల్ఫర్ యొక్క ఆక్సైడ్లు
2. ✗ హైడ్రోకార్బన్లు
3. ✗ ఓజోన్
4. ✓ పొగలు

Question Number : 25 Question Id : 630680366691 Is Question Mandatory : No Calculator : None Response Time : N.A Think Time : N.A Minimum Instruction Time : 0

Correct Marks : 1 Wrong Marks : 0

Which of the following is NOT a gaseous air pollutants?

Options :

1. ✘ Oxides of sulphur
2. ✘ Hydrocarbons
3. ✘ Ozone
4. ✔ Fumes

Question Number : 26 Question Id : 630680366692 Is Question Mandatory : No Calculator : None Response Time : N.A Think Time : N.A Minimum Instruction Time : 0

Correct Marks : 1 Wrong Marks : 0

కింది వాటిలో జిప్సం ఉత్పత్తి చేసే పరిశ్రమ ఏది?

Options :

1. ✘ ధర్మల్ పవర్ ప్లాంట్
2. ✔ ఎరువుల పరిశ్రమ
3. ✘ ఇనుము మరియు ఉక్కు కర్మాగారం
4. ✘ టెక్స్టైల్ ఫ్యాక్టరీ

Question Number : 26 Question Id : 630680366692 Is Question Mandatory : No Calculator : None Response Time : N.A Think Time : N.A Minimum Instruction Time : 0

Correct Marks : 1 Wrong Marks : 0

Which of the following industries produce gypsum?

Options :

1. ✘ Thermal power plant
2. ✔ Fertilizer industry
3. ✘ Iron and steel plant
4. ✘ Textile factory

Question Number : 27 Question Id : 630680366693 Is Question Mandatory : No Calculator : None Response Time : N.A Think Time : N.A Minimum Instruction Time : 0

Correct Marks : 1 Wrong Marks : 0

కింది వాటిలో దేన్ని సాధారణంగా బయోగ్యాస్ అని పిలుస్తారు?

Options :

1. ✔ మీథేన్
2. ✘ ఈథేన్
3. ✘ నీటి ఆవిరి
4. ✘ కార్బన్ డయాక్సైడ్

Question Number : 27 Question Id : 630680366693 Is Question Mandatory : No Calculator : None Response Time : N.A Think Time : N.A Minimum Instruction Time : 0

Correct Marks : 1 Wrong Marks : 0

Which of the following is commonly known as biogas?

Options :

1. ✔ Methane
2. ✘ Ethane
3. ✘ Water vapour
4. ✘ Carbondioxide

Question Number : 28 Question Id : 630680366694 Is Question Mandatory : No Calculator : None Response Time : N.A Think Time : N.A Minimum Instruction Time : 0

Correct Marks : 1 Wrong Marks : 0

యూట్రోఫికేషన్ అంటే ఏమిటి?

Options :

1. ✔ ఇది ఒక సరస్సులోని నీటిలో పోషకాలకు పెరగడం కారణంగా దానికి కలిగే సహజ వృద్ధాప్యం.
2. ✘ ఇది సరస్సు నీటిలో పోషకాల లోపాల కారణంగా దానికి కలిగే సహజ వృద్ధాప్యం.
3. ✘ ఇది ఒక సరస్సులోని నీటిలో పోషకాలకు పెరగడం కారణంగా దానికి కలిగే అసహజ వృద్ధాప్యం.
4. ✘ ఇది సరస్సు నీటిలో పోషకాల లోపాల కారణంగా దానికి కలిగే అసహజ వృద్ధాప్యం.

Question Number : 28 Question Id : 630680366694 Is Question Mandatory : No Calculator : None Response Time : N.A Think Time : N.A Minimum Instruction Time : 0

Correct Marks : 1 Wrong Marks : 0

What is Eutrophication?

Options :

1. ✓ It is the natural aging of a lake by nutrient enrichment of its water.
2. ✗ It is the natural aging of a lake by nutrient deficiency of its water.
3. ✗ It is the unnatural aging of a lake by nutrient enrichment of its water.
4. ✗ It is the unnatural aging of a lake by nutrient deficiency of its water.

Question Number : 29 Question Id : 630680366695 Is Question Mandatory : No Calculator : None Response Time : N.A Think Time : N.A Minimum Instruction Time : 0

Correct Marks : 1 Wrong Marks : 0

కిందివాటిలో భూతాపాన్ని నియంత్రించే మార్గం ఏది?

- I. శిలాజ ఇంధనాల వినియోగాన్ని తగ్గించడం.
- II. శక్తి వినియోగం యొక్క సామర్థ్యాన్ని మెరుగుపరచడం.
- III. అటవీ నిర్మూలనను తగ్గించడం.

Options :

1. ✗ I మరియు II మాత్రమే
2. ✗ II మరియు III మాత్రమే
3. ✗ I మరియు III రెండూ
4. ✓ I, II మరియు III

Question Number : 29 Question Id : 630680366695 Is Question Mandatory : No Calculator : None Response Time : N.A Think Time : N.A Minimum Instruction Time : 0

Correct Marks : 1 Wrong Marks : 0

Which of the following is a way to control global warming?

- I. Cutting down use of fossil fuels.
- II. Improving efficiency of energy usage.
- III. Reducing deforestation.

Options :

1. ✗ Only I and II
2. ✗ Only II and III
3. ✗ Both I and III
4. ✓ I, II and III

Question Number : 30 Question Id : 630680366696 Is Question Mandatory : No Calculator : None Response Time : N.A Think Time : N.A Minimum Instruction Time : 0

Correct Marks : 1 Wrong Marks : 0

Which of the following is known as "Green fuel"?

Options :

1. ✗ Fuel obtained with plastic waste has high octane rating. It contains lead and is known as green fuel.
2. ✗ Fuel obtained with plastic waste has low octane rating. It contains lead and is known as green fuel.
3. ✓ Fuel obtained from plastic waste has high octane rating. It contains no lead and is known as green fuel.
4. ✗ Fuel obtained from plastic waste has low octane rating. It contains no lead and is known as green fuel.

Question Number : 30 Question Id : 630680366696 Is Question Mandatory : No Calculator : None Response Time : N.A Think Time : N.A Minimum Instruction Time : 0

Correct Marks : 1 Wrong Marks : 0

కింది వాటిలో దేన్ని "గ్రీన్ ఫ్యూయల్" అని పిలుస్తారు?

Options :

1. ✗ ప్లాస్టిక్ వ్యర్థాలతో లభించే ఇంధనం అధిక ఆక్టేన్ రేటింగ్ను కలిగి ఉంటుంది. ఇది సీసంను కలిగి ఉంటుంది మరియు దీనిని గ్రీన్ ఇంధనం అని పిలుస్తారు.
2. ✗ ప్లాస్టిక్ వ్యర్థాలతో లభించే ఇంధనం తక్కువ ఆక్టేన్ రేటింగ్ను కలిగి ఉంటుంది. ఇది సీసంను కలిగి ఉంటుంది మరియు దీనిని గ్రీన్ ఇంధనం అని పిలుస్తారు.
3. ✓ ప్లాస్టిక్ వ్యర్థాల నుండి లభించే ఇంధనం అధిక ఆక్టేన్ రేటింగ్ను కలిగి ఉంటుంది. ఇందులో సీసం ఉండదు మరియు దీనిని గ్రీన్ ఇంధనం అంటారు.
4. ✗ ప్లాస్టిక్ వ్యర్థాల నుండి లభించే ఇంధనం తక్కువ ఆక్టేన్ రేటింగ్ను కలిగి ఉంటుంది. ఇందులో సీసం ఉండదు మరియు దీనిని గ్రీన్ ఇంధనం అంటారు.

Question Number : 31 Question Id : 630680366697 Is Question Mandatory : No Calculator : None Response Time : N.A Think Time : N.A Minimum Instruction Time : 0

Correct Marks : 1 Wrong Marks : 0

చింత గింజల కెర్నల్ పొడికి సంబంధించి కింది వాటిలో సరైనది ఏది?

- I. మునిసిపల్ మరియు పారిశ్రామిక వ్యర్థ జలాలను శుభ్రం చేయడానికి ఇది సమర్థవంతమైన పదార్థంగా గుర్తించబడింది.
- II. ఈ పొడిని సాధారణంగా వ్యవసాయ వ్యర్థంగా పారవేస్తారు.
- III. ఇది విషరహితం, జీవశైధిల్యం చెందేది మరియు తక్కువ ఖర్చుతో కూడుకున్న పదార్థం.

Options :

1. ✖ I మరియు II మాత్రమే
2. ✖ II మరియు III మాత్రమే
3. ✖ I మరియు III మాత్రమే
4. ✔ I, II మరియు III

Question Number : 31 Question Id : 630680366697 Is Question Mandatory : No Calculator : None Response Time : N.A Think Time : N.A Minimum Instruction Time : 0

Correct Marks : 1 Wrong Marks : 0

Which of the following statements is correct regarding powder of kernel of tamarind seeds?

- I. It has been found to be an effective material to make municipal and industrial waste water clean.
- II. This powder is usually discarded as agricultural waste.
- III. It is non-toxic, biodegradable and cost effective material.

Options :

1. ✖ Only I and II
2. ✖ Only II and III
3. ✖ Only I and III
4. ✔ I, II and III

Question Number : 32 Question Id : 630680366698 Is Question Mandatory : No Calculator : None Response Time : N.A Think Time : N.A Minimum Instruction Time : 0

Correct Marks : 1 Wrong Marks : 0

_____ అనేది ఉత్తర మరియు వాయువ్య భారతదేశంలో పగటిపూట వీచే బలమైన, గాలులతో కూడిన, వేడి, పొడి గాలులను సూచిస్తుంది.

Options :

1. ✖ కాల్ బైసాఖి
2. ✖ మామిడి జల్లులు
3. ✔ లూ
4. ✖ వర్షాకాలం

Question Number : 32 Question Id : 630680366698 Is Question Mandatory : No Calculator : None Response Time : N.A Think Time : N.A Minimum Instruction Time : 0

Correct Marks : 1 Wrong Marks : 0

_____ refers to the strong, gusty, hot, dry winds blowing during the day over the north and northwestern India.

Options :

1. ✖ Kaal Baisakhi
2. ✖ Mango showers
3. ✔ Loo
4. ✖ Monsoon

Question Number : 33 Question Id : 630680366699 Is Question Mandatory : No Calculator : None Response Time : N.A Think Time : N.A Minimum Instruction Time : 0

Correct Marks : 1 Wrong Marks : 0

ఆస్తమా మరియు అల్సర్లను నయం చేయడానికి క్రింది ఔషధ మొక్కలలో ఏది ఉపయోగించబడుతుంది?

Options :

1. ✖ సర్పగంధ
2. ✖ అర్థున్
3. ✖ తులసి
4. ✔ కచ్చార్

Question Number : 33 Question Id : 630680366699 Is Question Mandatory : No Calculator : None Response Time : N.A Think

Time : N.A Minimum Instruction Time : 0

Correct Marks : 1 Wrong Marks : 0

Which of the following medicinal plants is used to cure asthma and ulcers?

Options :

1. ✘ Sarpagandha
2. ✘ Arjun
3. ✘ Tulsi
4. ✔ Kachnar

Question Number : 34 Question Id : 630680366700 Is Question Mandatory : No Calculator : None Response Time : N.A Think Time : N.A Minimum Instruction Time : 0

Correct Marks : 1 Wrong Marks : 0

కింది వాటిలో 'అటవీ రకం - జంతువులు' జతలలో ఏది సరియైనది?

- I. ముళ్ళు, పొదల అడవులు - తోడేలు
- II. మడ అడవులు - మొసళ్ళు

Options :

1. ✘ I మాత్రమే
2. ✘ II మాత్రమే
3. ✔ I మరియు II రెండూ
4. ✘ I కానీ లేదా II కానీ కాదు

Question Number : 34 Question Id : 630680366700 Is Question Mandatory : No Calculator : None Response Time : N.A Think Time : N.A Minimum Instruction Time : 0

Correct Marks : 1 Wrong Marks : 0

Which of the following pairs of 'Forest type – Animals' are correctly matched?

- I. The Thorn Forests and Scrubs – Wolf
- II. Mangrove forests – Crocodiles

Options :

1. ✘ Only I
2. ✘ Only II
3. ✔ Both I and II
4. ✘ Neither I nor II

Question Number : 35 Question Id : 630680366701 Is Question Mandatory : No Calculator : None Response Time : N.A Think Time : N.A Minimum Instruction Time : 0

Correct Marks : 1 Wrong Marks : 0

హిమాలయాల శిఖరాల ఎత్తులను బట్టి క్రింది వాటిలో సరియైన విధంగా ఎత్తులు పెరిగే క్రమంలో అమర్చబడిన ఐచ్ఛికం ఏమిటి?

Options :

1. ✘ మకాలు < కామెట్ < అన్నపూర్ణ
2. ✘ నామ్చా బర్వా < నంగా పర్బత్ < నందా దేవి
3. ✔ కామెట్ < ధవళగిరి < కాంచనజంగా
4. ✘ అన్నపూర్ణ < నాంచ బర్వా < మకాలు

Question Number : 35 Question Id : 630680366701 Is Question Mandatory : No Calculator : None Response Time : N.A Think Time : N.A Minimum Instruction Time : 0

Correct Marks : 1 Wrong Marks : 0

Which the following peaks of the Himalayas are correctly arranged in the increasing order of their heights?

Options :

1. ✘ Makalu < Kamet < Annapurna
2. ✘ Namcha Barwa < Nanga Parbat < Nanda Devi
3. ✔ Kamet < Dhaulagiri < Kanchenjunga
4. ✘ Annapurna < Namcha Barwa < Makalu

Question Number : 36 Question Id : 630680366702 Is Question Mandatory : No Calculator : None Response Time : N.A Think Time : N.A Minimum Instruction Time : 0

Correct Marks : 1 Wrong Marks : 0

2011 జనాభా లెక్కల ప్రకారం, కింది ఏ భారతీయ రాష్ట్రాలు వాటి లింగ నిష్పత్తి ప్రకారం ఆరోహణ క్రమంలో సరిగ్గా అమర్చబడ్డాయి?

Options :

1. ✘ నాగాలాండ్ < సిక్కిం < మేఘాలయ

2. ✘ మేఘాలయ < సిక్కిం < నాగాలాండ్
3. ✘ సిక్కిం < మేఘాలయ < నాగాలాండ్
4. ✔ సిక్కిం < నాగాలాండ్ < మేఘాలయ

Question Number : 36 Question Id : 630680366702 Is Question Mandatory : No Calculator : None Response Time : N.A Think Time : N.A Minimum Instruction Time : 0

Correct Marks : 1 Wrong Marks : 0

Which the following Indian states are correctly arranged in the increasing order of their sex ratio, as per Census 2011?

Options :

1. ✘ Nagaland < Sikkim < Meghalaya
2. ✘ Meghalaya < Sikkim < Nagaland
3. ✘ Sikkim < Meghalaya < Nagaland
4. ✔ Sikkim < Nagaland < Meghalaya

Question Number : 37 Question Id : 630680366703 Is Question Mandatory : No Calculator : None Response Time : N.A Think Time : N.A Minimum Instruction Time : 0

Correct Marks : 1 Wrong Marks : 0

2011 జనాభా లెక్కల ప్రకారం కింది ఏ భారతీయ రాష్ట్రాలు వాటి అక్షరాస్యత రేటు ప్రకారం ఆరోహణ క్రమంలో సరిగ్గా అమర్చబడ్డాయి?

Options :

1. ✔ గుజరాత్ < మహారాష్ట్ర < కేరళ
2. ✘ మహారాష్ట్ర < గుజరాత్ < కేరళ
3. ✘ గుజరాత్ < కేరళ < మహారాష్ట్ర
4. ✘ మహారాష్ట్ర < కేరళ < గుజరాత్

Question Number : 37 Question Id : 630680366703 Is Question Mandatory : No Calculator : None Response Time : N.A Think Time : N.A Minimum Instruction Time : 0

Correct Marks : 1 Wrong Marks : 0

Which the following Indian states are correctly arranged in the increasing order of their literacy rate as per Census 2011?

Options :

1. ✔ Gujarat < Maharashtra < Kerala
2. ✘ Maharashtra < Gujarat < Kerala
3. ✘ Gujarat < Kerala < Maharashtra
4. ✘ Maharashtra < Kerala < Gujarat

Question Number : 38 Question Id : 630680366704 Is Question Mandatory : No Calculator : None Response Time : N.A Think Time : N.A Minimum Instruction Time : 0

Correct Marks : 1 Wrong Marks : 0

2011 జనాభా లెక్కల ప్రకారం భారతదేశ లింగ నిష్పత్తి ఎంత?

Options :

1. ✘ 929
2. ✔ 943
3. ✘ 949
4. ✘ 963

Question Number : 38 Question Id : 630680366704 Is Question Mandatory : No Calculator : None Response Time : N.A Think Time : N.A Minimum Instruction Time : 0

Correct Marks : 1 Wrong Marks : 0

What is the sex ratio of India, as per Census 2011?

Options :

1. ✘ 929
2. ✔ 943
3. ✘ 949
4. ✘ 963

Question Number : 39 Question Id : 630680366705 Is Question Mandatory : No Calculator : None Response Time : N.A Think Time : N.A Minimum Instruction Time : 0

Correct Marks : 1 Wrong Marks : 0

Which state has the highest literacy rate in India, as per Census 2011?

Options :

1. ✘ Gujarat
2. ✘ Maharashtra
3. ✘ Karnataka
4. ✔ Kerala

Question Number : 39 Question Id : 630680366705 Is Question Mandatory : No Calculator : None Response Time : N.A Think Time : N.A Minimum Instruction Time : 0

Correct Marks : 1 Wrong Marks : 0

2011 జనాభా లెక్కల ప్రకారం భారతదేశంలో అత్యధిక అక్షరాస్యత రేటు ఉన్న రాష్ట్రం ఏది?

Options :

1. ✘ గుజరాత్
2. ✘ మహారాష్ట్ర
3. ✘ కర్ణాటక
4. ✔ కేరళ

Question Number : 40 Question Id : 630680366706 Is Question Mandatory : No Calculator : None Response Time : N.A Think Time : N.A Minimum Instruction Time : 0

Correct Marks : 1 Wrong Marks : 0

రైల్వే మంత్రిత్వ శాఖ ప్రచురించిన రైల్వే ఇయర్‌బుక్ 2019–20 ప్రకారం, కింది వాటి పొడవు విస్తరణను బట్టి ఆరోహణ క్రమంలో అమర్చండి.

- I. మీటర్ గేజ్
- II. నారో గేజ్
- III. బ్రాడ్ గేజ్

Options :

1. ✘ II-III-I
2. ✔ II-I-III
3. ✘ I-III-II
4. ✘ I-II-III

Question Number : 40 Question Id : 630680366706 Is Question Mandatory : No Calculator : None Response Time : N.A Think Time : N.A Minimum Instruction Time : 0

Correct Marks : 1 Wrong Marks : 0

Arrange the following in the increasing order of their length of extension, as per the Railway Yearbook 2019–20 published by the Ministry of Railways.

- I. Metre Gauge
- II. Narrow Gauge
- III. Broad Gauge

Options :

1. ✘ II-III-I
2. ✔ II-I-III
3. ✘ I-III-II
4. ✘ I-II-III

Question Number : 41 Question Id : 630680366707 Is Question Mandatory : No Calculator : None Response Time : N.A Think Time : N.A Minimum Instruction Time : 0

Correct Marks : 1 Wrong Marks : 0

రాష్ట్రవ్యాప్తంగా ఉన్న అన్ని ఇళ్లకు పైకప్పు వర్షపు నీటి సంరక్షణ(రెయిన్ వాటర్ హార్వెస్టింగ్) నిర్మాణాన్ని తప్పనిసరి చేసిన భారతదేశంలోని మొదటి రాష్ట్రం _____.

Options :

1. ✘ కేరళ
2. ✔ తమిళనాడు
3. ✘ కర్ణాటక
4. ✘ ఒడిశా

Question Number : 41 Question Id : 630680366707 Is Question Mandatory : No Calculator : None Response Time : N.A Think Time : N.A Minimum Instruction Time : 0

Correct Marks : 1 Wrong Marks : 0

_____ is the first state in India Which has made rooftop rainwater harvesting structure compulsory to all the houses across the state.

Options :

1. ✘ Kerala
2. ✔ Tamil Nadu
3. ✘ Karnataka
4. ✘ Odisha

Question Number : 42 Question Id : 630680366708 Is Question Mandatory : No Calculator : None Response Time : N.A Think Time : N.A Minimum Instruction Time : 0

Correct Marks : 1 Wrong Marks : 0

కింది వాటిలో భారతదేశంలోని మూడవ అంచె(థర్డ్ టెయిర్) ప్రభుత్వం ఏది?

Options :

1. ✘ రాష్ట్ర ప్రభుత్వం
2. ✘ కేంద్ర ప్రభుత్వం
3. ✘ బ్యూరోక్రసీ
4. ✔ పంచాయతీ రాజ్

Question Number : 42 Question Id : 630680366708 Is Question Mandatory : No Calculator : None Response Time : N.A Think Time : N.A Minimum Instruction Time : 0

Correct Marks : 1 Wrong Marks : 0

Which of the following is the third tier of government in India?

Options :

1. ✘ State Government
2. ✘ Central Government
3. ✘ Bureaucracy
4. ✔ Panchayati Raj

Question Number : 43 Question Id : 630680366709 Is Question Mandatory : No Calculator : None Response Time : N.A Think Time : N.A Minimum Instruction Time : 0

Correct Marks : 1 Wrong Marks : 0

భారత రాజ్యాంగంలోని ఏడవ షెడ్యూల్ కింది వాటిలో దేనికి సంబంధించినది?

- I. కేంద్ర జాబితా
- II. రాష్ట్ర జాబితా
- III. ఉమ్మడి జాబితా

Options :

1. ✘ I మరియు II
2. ✘ I మరియు III
3. ✘ II మరియు III
4. ✔ I, II మరియు III

Question Number : 43 Question Id : 630680366709 Is Question Mandatory : No Calculator : None Response Time : N.A Think Time : N.A Minimum Instruction Time : 0

Correct Marks : 1 Wrong Marks : 0

The seventh schedule of the Indian Constitution is related with which of the following?

- I. Union List
- II. State List
- III. Concurrent List

Options :

1. ✘ I and II
2. ✘ I and III
3. ✘ II and III
4. ✔ I, II and III

Question Number : 44 Question Id : 630680366710 Is Question Mandatory : No Calculator : None Response Time : N.A Think Time : N.A Minimum Instruction Time : 0

Correct Marks : 1 Wrong Marks : 0

కింది ఆర్టికల్‌లను భారత రాజ్యాంగంలో మొదటి నుండి చివరి వరకు వాటి స్థానాన్ని బట్టి సరైన క్రమంలో అమర్చండి.

- I. విద్య హక్కు

- II. మానవ అక్రమ రవాణా మరియు వెళ్ళిచాకిరి నిషేధం
III. అంటరానితనం నిర్మూలన

Options :

1. ✓ III-I-II
2. ✗ III-II-I
3. ✗ I-III-II
4. ✗ II-III-I

Question Number : 44 Question Id : 630680366710 Is Question Mandatory : No Calculator : None Response Time : N.A Think Time : N.A Minimum Instruction Time : 0

Correct Marks : 1 Wrong Marks : 0

Arrange the following Articles in the correct sequence of their place from first to last in the Indian Constitution.

- I. Right to education
II. Prohibition of traffic in human beings and forced labour
III. Abolition of Untouchability

Options :

1. ✓ III-I-II
2. ✗ III-II-I
3. ✗ I-III-II
4. ✗ II-III-I

Question Number : 45 Question Id : 630680366711 Is Question Mandatory : No Calculator : None Response Time : N.A Think Time : N.A Minimum Instruction Time : 0

Correct Marks : 1 Wrong Marks : 0

కిందివాటిలో సుప్రీంకోర్టు వాస్తవ అధికార పరిధి ఏది?

- I. భారత ప్రభుత్వం మరియు ఒకటి లేదా అంతకంటే ఎక్కువ రాష్ట్రాల మధ్య ఏదైనా వివాదంలో.
II. రెండు లేదా అంతకంటే ఎక్కువ రాష్ట్రాల మధ్య ఏదైనా వివాదంలో.

Options :

1. ✗ I మాత్రమే
2. ✗ II మాత్రమే
3. ✓ I మరియు II రెండూ
4. ✗ I కానీ లేదా II కానీ కాదు

Question Number : 45 Question Id : 630680366711 Is Question Mandatory : No Calculator : None Response Time : N.A Think Time : N.A Minimum Instruction Time : 0

Correct Marks : 1 Wrong Marks : 0

Which of the followings is original jurisdiction of Supreme Court?

- I. In any dispute between Government of India and one or more state.
II. In any dispute between two or more states.

Options :

1. ✗ Only I
2. ✗ Only II
3. ✓ Both I and II
4. ✗ Neither I nor II

Question Number : 46 Question Id : 630680366712 Is Question Mandatory : No Calculator : None Response Time : N.A Think Time : N.A Minimum Instruction Time : 0

Correct Marks : 1 Wrong Marks : 0

రాష్ట్రపతి అధికారం గురించి కింది వాటిలో సరైనది ఏది?

- I. రాష్ట్రపతి ఎప్పటికప్పుడు సభలను లేదా ఏదైనా సభను వాయిదా చేయవచ్చు.
II. రాష్ట్రపతి సమయానుగుణంగా లోక్ సభను రద్దు చేయవచ్చు.

Options :

1. ✗ I మాత్రమే
2. ✗ II మాత్రమే
3. ✓ I మరియు II రెండూ
4. ✗ I కానీ II కానీ కాదు

Question Number : 46 Question Id : 630680366712 Is Question Mandatory : No Calculator : None Response Time : N.A Think Time : N.A Minimum Instruction Time : 0

Correct Marks : 1 Wrong Marks : 0

Which of the following is correct about Power of President?

- I. The President may from time to time prorogue the houses or either house.
II. The President may from time to time dissolve the house of the people.

Options :

1. ✘ Only I
2. ✘ Only II
3. ✔ Both I and II
4. ✘ Neither I nor II

Question Number : 47 Question Id : 630680366713 Is Question Mandatory : No Calculator : None Response Time : N.A Think Time : N.A Minimum Instruction Time : 0

Correct Marks : 1 Wrong Marks : 0

కింది వాటిలో లోక్ సభ స్థానాల సంఖ్యకు సంబంధించి రాష్ట్రాల సరైన అవరోహణ క్రమం ఏది?

Options :

1. ✘ తమిళనాడు > ఒడిశా > గుజరాత్
2. ✔ తమిళనాడు > గుజరాత్ > ఒడిశా
3. ✘ గుజరాత్ > తమిళనాడు > ఒడిశా
4. ✘ ఒడిశా > తమిళనాడు > గుజరాత్

Question Number : 47 Question Id : 630680366713 Is Question Mandatory : No Calculator : None Response Time : N.A Think Time : N.A Minimum Instruction Time : 0

Correct Marks : 1 Wrong Marks : 0

Which of the following is the correct decreasing order of states with respect to the number of their Lok Sabha seats?

Options :

1. ✘ Tamil Nadu > Odisha > Gujarat
2. ✔ Tamil Nadu > Gujarat > Odisha
3. ✘ Gujarat > Tamil Nadu > Odisha
4. ✘ Odisha > Tamil Nadu > Gujarat

Question Number : 48 Question Id : 630680366714 Is Question Mandatory : No Calculator : None Response Time : N.A Think Time : N.A Minimum Instruction Time : 0

Correct Marks : 1 Wrong Marks : 0

Match the following.

	House		Preceding Officer
I	House of the people	1	Vice President
II	Council of State	2	Speaker
III	State legislative council	3	Chairman

Options :

1. ✘ I-1, II-2, III-3
2. ✔ I-2, II-1, III-3
3. ✘ I-3, II-2, III-1
4. ✘ I-1, II-3, III-2

Question Number : 48 Question Id : 630680366714 Is Question Mandatory : No Calculator : None Response Time : N.A Think Time : N.A Minimum Instruction Time : 0

Correct Marks : 1 Wrong Marks : 0

దిగువ వాటిని జతపర్చండి.

	సభ		ప్రీసైడింగ్ అధికారి
I	లోక్ సభ	1	ఉపరాష్ట్రపతి
II	రాజ్యసభ	2	స్పీకర్
III	రాష్ట్ర శాసన మండలి	3	చైర్మన్

Options :

1. ✘ I-1, II-2, III-3
2. ✔ I-2, II-1, III-3
3. ✘ I-3, II-2, III-1
4. ✘ I-1, II-3, III-2

Question Number : 49 Question Id : 630680366715 Is Question Mandatory : No Calculator : None Response Time : N.A Think Time : N.A Minimum Instruction Time : 0

Correct Marks : 1 Wrong Marks : 0

కింది ఆర్టికల్ లలో ఏది లోక్ సభ యొక్క కూర్పును వివరిస్తుంది?

Options :

1. ✘ ఆర్టికల్ 61
2. ✘ ఆర్టికల్ 71
3. ✔ ఆర్టికల్ 81
4. ✘ ఆర్టికల్ 91

Question Number : 49 Question Id : 630680366715 Is Question Mandatory : No Calculator : None Response Time : N.A Think Time : N.A Minimum Instruction Time : 0

Correct Marks : 1 Wrong Marks : 0

Which of the following articles explains composition of the House of the People?

Options :

1. ✘ Article 61
2. ✘ Article 71
3. ✔ Article 81
4. ✘ Article 91

Question Number : 50 Question Id : 630680366716 Is Question Mandatory : No Calculator : None Response Time : N.A Think Time : N.A Minimum Instruction Time : 0

Correct Marks : 1 Wrong Marks : 0

భారత రాజ్యాంగంలోని ఆర్టికల్ 136 ప్రకారం, సుప్రీంకోర్టు ద్వారా సెషన్ లీవ్ అప్పీల్ చేయడానికి _____ కు వర్తించదు.

Options :

1. ✔ సాయుధ దళాల ట్రిబ్యునల్స్
2. ✘ GST ట్రిబ్యునల్స్
3. ✘ హైకోర్టు
4. ✘ జిల్లా మరియు సెషన్ కోర్టులు

Question Number : 50 Question Id : 630680366716 Is Question Mandatory : No Calculator : None Response Time : N.A Think Time : N.A Minimum Instruction Time : 0

Correct Marks : 1 Wrong Marks : 0

As per Article 136 of the Indian Constitution, special leave to appeal by Supreme court shall not apply to _____.

Options :

1. ✔ Armed forces tribunals
2. ✘ GST tribunals
3. ✘ High Court
4. ✘ District and Session Courts

Question Number : 51 Question Id : 630680366717 Is Question Mandatory : No Calculator : None Response Time : N.A Think

Time : N.A Minimum Instruction Time : 0

Correct Marks : 1 Wrong Marks : 0

భారతదేశ ప్రధాన మంత్రి _____.

Options :

1. ✓ రాష్ట్రపతిచే నియమించబడతారు
2. ✗ ప్రజలచే ఎన్నుకోబడతారు
3. ✗ రాష్ట్రపతిచే నామినేట్ చేయబడతారు
4. ✗ భారత ఎన్నికల సంఘంచే ఎంపిక చేయబడతారు

Question Number : 51 Question Id : 630680366717 Is Question Mandatory : No Calculator : None Response Time : N.A Think Time : N.A Minimum Instruction Time : 0

Correct Marks : 1 Wrong Marks : 0

The Prime Minister of India is _____.

Options :

1. ✓ appointed by the President
2. ✗ elected by the people
3. ✗ nominated by the President
4. ✗ selected by the Election Commission of India

Question Number : 52 Question Id : 630680366718 Is Question Mandatory : No Calculator : None Response Time : N.A Think Time : N.A Minimum Instruction Time : 0

Correct Marks : 1 Wrong Marks : 0

స్థానిక ప్రభుత్వ సంస్థల ఎన్నికలను ఎవరు నిర్వహిస్తారు?

Options :

1. ✗ భారత ఎన్నికల సంఘం
2. ✓ రాష్ట్ర ఎన్నికల సంఘం
3. ✗ భారత ఎన్నికల సంఘం ఆధ్వర్యంలో రాష్ట్ర ఎన్నికల కమిషనర్
4. ✗ రాష్ట్ర ఎన్నికల సంఘం ఆధ్వర్యంలో భారత ఎన్నికల కమిషనర్.

Question Number : 52 Question Id : 630680366718 Is Question Mandatory : No Calculator : None Response Time : N.A Think Time : N.A Minimum Instruction Time : 0

Correct Marks : 1 Wrong Marks : 0

Who conducts elections of local government bodies?

Options :

1. ✗ Election Commission of India
2. ✓ State Election Commission
3. ✗ State Election Commissioner under Election Commission of India
4. ✗ Election Commissioner of India under State Election Commission.

Question Number : 53 Question Id : 630680366719 Is Question Mandatory : No Calculator : None Response Time : N.A Think Time : N.A Minimum Instruction Time : 0

Correct Marks : 1 Wrong Marks : 0

11వ షెడ్యూల్ ప్రకారం కింది విధుల్లో పంచాయితీ రాజ్ సంస్థల (PRIs) విధి ఏది?

I. పశుసంవర్ధక, పాడి పరిశ్రమ మరియు కోళ్ల పెంపకం.

II. సామాజిక అటవీకరణం మరియు వ్యవసాయ అటవీకరణం.

Options :

1. ✗ I మాత్రమే
2. ✗ II మాత్రమే
3. ✓ I మరియు II రెండూ
4. ✗ I కానీ లేదా II కానీ కాదు

Question Number : 53 Question Id : 630680366719 Is Question Mandatory : No Calculator : None Response Time : N.A Think Time : N.A Minimum Instruction Time : 0

Correct Marks : 1 Wrong Marks : 0

Which of the following functions of the Panchayati Raj Institutions (PRIs), under the 11th schedule?

I. Animal Husbandry, Dairying and Poultry.

II. Social forestry and farm forestry.

Options :

1. ✘ Only I
2. ✘ Only II
3. ✔ Both I and II
4. ✘ Neither I nor II

Question Number : 54 Question Id : 630680366720 Is Question Mandatory : No Calculator : None Response Time : N.A Think Time : N.A Minimum Instruction Time : 0

Correct Marks : 1 Wrong Marks : 0

భారతదేశంలోని స్థానిక ప్రభుత్వ సందర్భంలో కింది జతలలో ఏది సరిగ్గా జతపర్చబడింది?

- I. 73వ రాజ్యాంగ సవరణ - పంచాయతీ రాజ్ సంస్థలు
- II. 74వ రాజ్యాంగ సవరణ - పట్టణ స్థానిక ప్రభుత్వం

Options :

1. ✘ I మాత్రమే
2. ✘ II మాత్రమే
3. ✔ I మరియు II రెండూ
4. ✘ I కానీ II కానీ కాదు

Question Number : 54 Question Id : 630680366720 Is Question Mandatory : No Calculator : None Response Time : N.A Think Time : N.A Minimum Instruction Time : 0

Correct Marks : 1 Wrong Marks : 0

Which of the following pairs is/are correctly matched, in the context of local government in India?

- I. 73rd Constitutional Amendment – Panchayati Raj Institutions
- II. 74th Constitutional Amendment – Urban Local Government

Options :

1. ✘ Only I
2. ✘ Only II
3. ✔ Both I and II
4. ✘ Neither I nor II

Question Number : 55 Question Id : 630680366721 Is Question Mandatory : No Calculator : None Response Time : N.A Think Time : N.A Minimum Instruction Time : 0

Correct Marks : 1 Wrong Marks : 0

కింది సంఘటనలను వాటి యొక్క సరైన కాలక్రమానుసారం (మొదటి నుండి చివరి వరకు) ఏర్పాటు చేయండి?

- I. బెంగాల్ విభజన జరిగింది.
- II. భారత జాతీయ కాంగ్రెస్ స్థాపించబడింది.
- III. భారతదేశంలో వెర్నాక్యులర్ ప్రెస్ యాక్ట్ రూపొందించబడింది.

Options :

1. ✔ III-II-I
2. ✘ II-I-III
3. ✘ II-III-I
4. ✘ III-I-II

Question Number : 55 Question Id : 630680366721 Is Question Mandatory : No Calculator : None Response Time : N.A Think Time : N.A Minimum Instruction Time : 0

Correct Marks : 1 Wrong Marks : 0

Arrange the following reform organisations in the correct chronological order (from first to last) of their establishment?

- I. Bengal was partitioned.
- II. The Indian National Congress was established.
- III. Vernacular Press Act was enacted in India.

Options :

1. ✔ III-II-I
2. ✘ II-I-III
3. ✘ II-III-I
4. ✘ III-I-II

Question Number : 56 Question Id : 630680366722 Is Question Mandatory : No Calculator : None Response Time : N.A Think Time : N.A Minimum Instruction Time : 0

Correct Marks : 1 Wrong Marks : 0

కింది సంఘటనలను మొదటి నుండి ఆఖరుగా జరిగిన వాటి వరకు సరైన కాలక్రమానుసారంగా అమర్చండి.

- I. వుడ్స్ డిస్పాచ్

- II. సెరాంపూర్ మిషన్
- III. మెకాలే మినిట్స్

Options :

- 1. ✘ I-II-III
- 2. ✘ III-II-I
- 3. ✘ II-I-III
- 4. ✔ II-III-I

Question Number : 56 Question Id : 630680366722 Is Question Mandatory : No Calculator : None Response Time : N.A Think Time : N.A Minimum Instruction Time : 0

Correct Marks : 1 Wrong Marks : 0

Arrange the following events in the correct chronological order from first to last.

- I. Wood's Despatch
- II. Serampore Mission
- III. Macaulay's Minutes

Options :

- 1. ✘ I-II-III
- 2. ✘ III-II-I
- 3. ✘ II-I-III
- 4. ✔ II-III-I

Question Number : 57 Question Id : 630680366723 Is Question Mandatory : No Calculator : None Response Time : N.A Think Time : N.A Minimum Instruction Time : 0

Correct Marks : 1 Wrong Marks : 0

"To the altar of this revolution we have brought our youth as incense, for no sacrifice is too great for so magnificent a cause". The aforementioned statement was said by _____.

Options :

- 1. ✘ Bal Gangadhar Tilak
- 2. ✘ Subhas Chandra Bose
- 3. ✔ Bhagat Singh
- 4. ✘ Lala Lajpat Rai

Question Number : 57 Question Id : 630680366723 Is Question Mandatory : No Calculator : None Response Time : N.A Think Time : N.A Minimum Instruction Time : 0

Correct Marks : 1 Wrong Marks : 0

"ఈ విప్లవ బలిపీఠానికి మేము మా యవ్వనాన్ని ధూపంగా తీసుకువచ్చాము, ఎందుకంటే ఇంత అద్భుతమైన కారణానికి మించి ఏ త్యాగమూ గొప్పది కాదు." పైన పేర్కొన్న ప్రకటన _____ ద్వారా చెప్పబడింది.

Options :

- 1. ✘ బాల గంగాధర తిలక్
- 2. ✘ సుభాష్ చంద్రబోస్
- 3. ✔ భగత్ సింగ్
- 4. ✘ లాలా లజపతిరాయ్

Question Number : 58 Question Id : 630680366724 Is Question Mandatory : No Calculator : None Response Time : N.A Think Time : N.A Minimum Instruction Time : 0

Correct Marks : 1 Wrong Marks : 0

కింది సంస్కరణ సంస్థలను వాటి స్థాపన యొక్క సరైన కాలక్రమానుసారంగా ఏర్పాటు చేయండి?

- I. వేద సమాజం
- II. బ్రహ్మ సమాజం
- III. ప్రార్థన సమాజం

Options :

- 1. ✘ I-III-II
- 2. ✘ I-II-III
- 3. ✘ II-III-I
- 4. ✔ II-I-III

Question Number : 58 Question Id : 630680366724 Is Question Mandatory : No Calculator : None Response Time : N.A Think Time : N.A Minimum Instruction Time : 0

Correct Marks : 1 Wrong Marks : 0

Arrange the following reform organisations in the correct chronological order of their establishment?

- I. Veda Samaj
- II. Brahmo Samaj
- III. Prarthana Samaj

Options :

1. ✘ I-III-II
2. ✘ I-II-III
3. ✘ II-III-I
4. ✔ II-I-III

Question Number : 59 Question Id : 630680366725 Is Question Mandatory : No Calculator : None Response Time : N.A Think Time : N.A Minimum Instruction Time : 0

Correct Marks : 1 Wrong Marks : 0

రాజ్య సంక్రమణ సిద్ధాంతం (డౌక్ట్రీన్ ఆఫ్ లాప్స్) ద్వారా బ్రిటీష్ వారు కలుపుకున్న క్రమంలో కింది రాజ్యాలను సరైన కాలక్రమానుసారం (మొదటి నుండి చివరి వరకు) అమర్చండి?

- I. రూనీస్
- II. నాగ్పూర్
- III. ఆవాద్

Options :

1. ✘ I-III-II
2. ✘ I-II-III
3. ✘ II-III-I
4. ✔ II-I-III

Question Number : 59 Question Id : 630680366725 Is Question Mandatory : No Calculator : None Response Time : N.A Think Time : N.A Minimum Instruction Time : 0

Correct Marks : 1 Wrong Marks : 0

Arrange the following kingdoms in the correct chronological order (from first to last) of their annexation by means of the Doctrine of Lapse?

- I. Jhansi
- II. Nagpur
- III. Awadh

Options :

1. ✘ I-III-II
2. ✘ I-II-III
3. ✘ II-III-I
4. ✔ II-I-III

Question Number : 60 Question Id : 630680366726 Is Question Mandatory : No Calculator : None Response Time : N.A Think Time : N.A Minimum Instruction Time : 0

Correct Marks : 1 Wrong Marks : 0

మంగళ్ పాండే _____ 1857లో ఉరి తీయబడ్డాడు.

Options :

1. ✘ జనవరి
2. ✔ మార్చి
3. ✘ మే
4. ✘ జూలై

Question Number : 60 Question Id : 630680366726 Is Question Mandatory : No Calculator : None Response Time : N.A Think Time : N.A Minimum Instruction Time : 0

Correct Marks : 1 Wrong Marks : 0

Mangal Pandey was hanged to death in _____ 1857.

Options :

1. ✘ January
2. ✔ March
3. ✘ May
4. ✘ July

Question Number : 61 Question Id : 630680366727 Is Question Mandatory : No Calculator : None Response Time : N.A Think Time : N.A Minimum Instruction Time : 0

Correct Marks : 1 Wrong Marks : 0

'స్రీపురుష్ తులనా' అనే పుస్తకాన్ని ఎవరు రచించారు?

Options :

1. ✘ పండిత రమాబాయి
2. ✘ రాష్ సుందరి దేబీ
3. ✔ తారాబాయి పిండే
4. ✘ సావిత్రిబాయి ఫూలే

Question Number : 61 Question Id : 630680366727 Is Question Mandatory : No Calculator : None Response Time : N.A Think Time : N.A Minimum Instruction Time : 0

Correct Marks : 1 Wrong Marks : 0

Who published the book named 'Stripurushtulna'?

Options :

1. ✘ Pandita Ramabai
2. ✘ Rashesundari Debi
3. ✔ Tarabai Shinde
4. ✘ Savitribai Phule

Question Number : 62 Question Id : 630680366728 Is Question Mandatory : No Calculator : None Response Time : N.A Think Time : N.A Minimum Instruction Time : 0

Correct Marks : 1 Wrong Marks : 0

పర్మినెంట్ సెటిల్ మెంట్ (శాశ్వత పరిష్కారాల చట్టం) ప్రవేశపెట్టినప్పుడు భారత గవర్నర్ జనరల్ ఎవరు?

Options :

1. ✘ థామస్ మున్రో
2. ✘ రిచర్డ్ వెల్లెస్లీ
3. ✔ చార్లెస్ కార్నెవాలిస్
4. ✘ వారెన్ హేస్టింగ్స్

Question Number : 62 Question Id : 630680366728 Is Question Mandatory : No Calculator : None Response Time : N.A Think Time : N.A Minimum Instruction Time : 0

Correct Marks : 1 Wrong Marks : 0

Who was the Governor General of India when the Permanent Settlement was introduced?

Options :

1. ✘ Thomas Munro
2. ✘ Richard Wellesley
3. ✔ Charles Cornwallis
4. ✘ Warren Hastings

Question Number : 63 Question Id : 630680366729 Is Question Mandatory : No Calculator : None Response Time : N.A Think Time : N.A Minimum Instruction Time : 0

Correct Marks : 1 Wrong Marks : 0

MGNREGA అమలుకు కింది వాటిలో ఏ మంత్రిత్వ శాఖ బాధ్యత వహిస్తుంది?

Options :

1. ✘ ఆర్థిక మంత్రిత్వ శాఖ
2. ✘ హోం వ్యవహారాల మంత్రిత్వ శాఖ
3. ✔ గ్రామీణాభివృద్ధి మంత్రిత్వ శాఖ
4. ✘ ఆరోగ్య, కుటుంబ సంక్షేమ మంత్రిత్వ శాఖ

Question Number : 63 Question Id : 630680366729 Is Question Mandatory : No Calculator : None Response Time : N.A Think Time : N.A Minimum Instruction Time : 0

Correct Marks : 1 Wrong Marks : 0

Which of the following Ministry is responsible for the implementation of MGNREGA?

Options :

1. ✘ Ministry of Finance
2. ✘ Ministry of Home Affairs
3. ✔ Ministry of Rural Development
4. ✘ Ministry of Health and Family Welfare

Question Number : 64 Question Id : 630680366730 Is Question Mandatory : No Calculator : None Response Time : N.A Think Time : N.A Minimum Instruction Time : 0

Correct Marks : 1 Wrong Marks : 0

మానవ అభివృద్ధి సూచిక (HDI) 2021 – 22కి సంబంధించి కింది వాటిలో సరైనది ఏది?

I. 191 దేశాలలో భారతదేశం 132వ స్థానంలో ఉంది.

II. 2020 లేదా 2021లో తొంభై శాతం దేశాలు తమ హెచ్ డీఐ విలువలో క్షీణతను నమోదు చేశాయి.

Options :

1. ✘ I మాత్రమే
2. ✘ II మాత్రమే
3. ✔ I మరియు II రెండూ
4. ✘ I కానీ లేదా II కానీ కాదు

Question Number : 64 Question Id : 630680366730 Is Question Mandatory : No Calculator : None Response Time : N.A Think Time : N.A Minimum Instruction Time : 0

Correct Marks : 1 Wrong Marks : 0

Which of the following is correct about the Human Development Index (HDI) 2021 – 22?

I. India ranks 132 out of 191 countries.

II. Ninety percent countries have registered a decline in their HDI value in 2020 or 2021.

Options :

1. ✘ Only I
2. ✘ Only II
3. ✔ Both I and II
4. ✘ Neither I nor II

Question Number : 65 Question Id : 630680366731 Is Question Mandatory : No Calculator : None Response Time : N.A Think Time : N.A Minimum Instruction Time : 0

Correct Marks : 1 Wrong Marks : 0

కింది వాటిలో గ్రామీణ రుణం యొక్క సంస్థాగత మూలం ఏది?

Options :

1. ✔ ప్రాంతీయ గ్రామీణ బ్యాంకులు
2. ✘ భూస్వాములు
3. ✘ వర్తకులు
4. ✘ వడ్డీ వ్యాపారులు

Question Number : 65 Question Id : 630680366731 Is Question Mandatory : No Calculator : None Response Time : N.A Think Time : N.A Minimum Instruction Time : 0

Correct Marks : 1 Wrong Marks : 0

Which of the following are institutional source of rural credit?

Options :

1. ✔ Regional Rural Banks
2. ✘ Landlords
3. ✘ Traders
4. ✘ Moneylenders

Question Number : 66 Question Id : 630680366732 Is Question Mandatory : No Calculator : None Response Time : N.A Think Time : N.A Minimum Instruction Time : 0

Correct Marks : 1 Wrong Marks : 0

What is the full form of PLI, an initiative of government of India?

Options :

1. ✘ Privatization Liberalization Industrialization
2. ✔ Production Linked Incentive
3. ✘ Production Linked Infrastructure
4. ✘ Production Linked Innovation

Question Number : 66 Question Id : 630680366732 Is Question Mandatory : No Calculator : None Response Time : N.A Think Time : N.A Minimum Instruction Time : 0

Correct Marks : 1 Wrong Marks : 0

భారత ప్రభుత్వ కార్యక్రమం అయిన PLI యొక్క విస్తరణ రూపం ఏమిటి?

Options :

1. ✘ ప్రైవేటైజేషన్ లిబరలైజేషన్ ఇండస్ట్రియలైజేషన్ (Privatization Liberalization Industrialization)
2. ✔ ప్రొడక్షన్ లింక్డ్ ఇన్సెంటివ్ (Production Linked Incentive)
3. ✘ ప్రొడక్షన్ లింక్డ్ ఇన్ఫ్రాస్ట్రక్చర్ (Production Linked Infrastructure)
4. ✘ ప్రొడక్షన్ లింక్డ్ ఇన్నోవేషన్ (Production Linked Innovation)

Question Number : 67 Question Id : 630680366733 Is Question Mandatory : No Calculator : None Response Time : N.A Think Time : N.A Minimum Instruction Time : 0

Correct Marks : 1 Wrong Marks : 0

రాబడి వసూళ్ల సందర్భంలో కింది జతలలో ఏది సరిగ్గా జతపర్చబడింది?

- I. బహుమతి పన్ను - ప్రత్యక్ష పన్ను
- II. సంపద పన్ను - పరోక్ష పన్ను

Options :

1. ✔ I మాత్రమే
2. ✘ II మాత్రమే
3. ✘ I మరియు II రెండూ
4. ✘ I కానీ లేదా II కానీ కాదు

Question Number : 67 Question Id : 630680366733 Is Question Mandatory : No Calculator : None Response Time : N.A Think Time : N.A Minimum Instruction Time : 0

Correct Marks : 1 Wrong Marks : 0

Which of the following pairs is/are is correctly matched, in the context of revenue receipts?

- I. Gift tax - Direct tax
- II. Wealth tax - Indirect tax

Options :

1. ✔ Only I
2. ✘ Only II
3. ✘ Both I and II
4. ✘ Neither I nor II

Question Number : 68 Question Id : 630680366734 Is Question Mandatory : No Calculator : None Response Time : N.A Think Time : N.A Minimum Instruction Time : 0

Correct Marks : 1 Wrong Marks : 0

పెట్టుబడుల ఉపసంహరణ (Disinvestment) అంటే పబ్లిక్ వాటాను _____ కి విక్రయించడం.

Options :

1. ✘ క్యాపిటల్ మార్కెట్
2. ✘ మనీ మార్కెట్
3. ✘ లాభాపేక్ష లేని సంస్థ
4. ✔ ప్రైవేట్ సంస్థలు

Question Number : 68 Question Id : 630680366734 Is Question Mandatory : No Calculator : None Response Time : N.A Think Time : N.A Minimum Instruction Time : 0

Correct Marks : 1 Wrong Marks : 0

Disinvestment means selling of public share to a _____.

Options :

1. ✘ capital market
2. ✘ money market
3. ✘ non-profit organization
4. ✔ private enterprises

Question Number : 69 Question Id : 630680366735 Is Question Mandatory : No Calculator : None Response Time : N.A Think Time : N.A Minimum Instruction Time : 0

Correct Marks : 1 Wrong Marks : 0

కింది వాటిలో ఏ చర్యలు ప్రైవేటీకరణ రూపం?

- I. యాజమాన్యం చర్య
- II. సంస్థాగత చర్య
- III. కార్యాచరణ చర్య

Options :

1. ✘ I మరియు II మాత్రమే

2. ✘ II మరియు III మాత్రమే
3. ✘ I మరియు III మాత్రమే
4. ✔ I, II మరియు III

Question Number : 69 Question Id : 630680366735 Is Question Mandatory : No Calculator : None Response Time : N.A Think Time : N.A Minimum Instruction Time : 0

Correct Marks : 1 Wrong Marks : 0

Which of the following measures are form of privatisation?

- I. Ownership measure
- II. Organisational measure
- III. Operational measure

Options :

1. ✘ Only I and II
2. ✘ Only II and III
3. ✘ Only I and III
4. ✔ I, II and III

Question Number : 70 Question Id : 630680366736 Is Question Mandatory : No Calculator : None Response Time : N.A Think Time : N.A Minimum Instruction Time : 0

Correct Marks : 1 Wrong Marks : 0

ఆర్థిక వృద్ధి సందర్భంలో, GDPలో 'G' అంటే ఏమిటి?

Options :

1. ✘ జియోస్టేషనరీ
2. ✘ జియోసింక్రోనస్
3. ✔ గ్రాస్
4. ✘ గ్రాట్యూటీ

Question Number : 70 Question Id : 630680366736 Is Question Mandatory : No Calculator : None Response Time : N.A Think Time : N.A Minimum Instruction Time : 0

Correct Marks : 1 Wrong Marks : 0

In the context of economic growth, what does 'G' stand for in GDP?

Options :

1. ✘ Geostationary
2. ✘ Geosynchronous
3. ✔ Gross
4. ✘ Gratuity

Question Number : 71 Question Id : 630680366737 Is Question Mandatory : No Calculator : None Response Time : N.A Think Time : N.A Minimum Instruction Time : 0

Correct Marks : 1 Wrong Marks : 0

దిగువ వాటిని జతపర్చండి.

	కీలక పదం		బెచిత్త్యం
I	హారిత విప్లవం	1	వ్యవసాయ ఉత్పత్తిని గణనీయంగా పెంచిన కొత్త వ్యవసాయ సాంకేతికత
II	హెచ్.వై.వి. విత్తనాలు	2	అవి రసాయన ఎరువులపై పెద్దగా ఆధారపడటం లేదు
III	జన్యపరంగా మార్పు చేసిన విత్తనాలు	3	అవి అధిక మొత్తంలో ఎరువులను తట్టుకోగలవు

Options :

1. ✘ I-1, II-2, III-3
2. ✔ I-1, II-3, III-2
3. ✘ I-2, II-1, III-3
4. ✘ I-3, II-2, III-1

Question Number : 71 Question Id : 630680366737 Is Question Mandatory : No Calculator : None Response Time : N.A Think

Time : N.A Minimum Instruction Time : 0

Correct Marks : 1 Wrong Marks : 0

Match the following.

	Keyword		Relevance
I	Green Revolution	1	A new agricultural technology which increased agricultural production substantially
II	H.Y.V. Seeds	2	They are not heavily dependent on chemical fertilizers
III	Genetically Modified Seeds	3	They could withstand high amount of fertilizers

Options :

1. ✘ I-1, II-2, III-3
2. ✔ I-1, II-3, III-2
3. ✘ I-2, II-1, III-3
4. ✘ I-3, II-2, III-1

Question Number : 72 Question Id : 630680366738 Is Question Mandatory : No Calculator : None Response Time : N.A Think Time : N.A Minimum Instruction Time : 0

Correct Marks : 1 Wrong Marks : 0

ఏడవ పంచవర్ష ప్రణాళిక నుండి, వనరుల కేటాయింపులో గణనీయమైన శాతం ఏ రంగానికి ప్రాధాన్యత లభించింది?

Options :

1. ✔ విద్యుత్ (Energy)
2. ✘ వ్యవసాయం మరియు అనుబంధం
3. ✘ పరిశ్రమ మరియు ఖనిజాలు
4. ✘ గ్రామ మరియు చిన్న తరహా పరిశ్రమలు

Question Number : 72 Question Id : 630680366738 Is Question Mandatory : No Calculator : None Response Time : N.A Think Time : N.A Minimum Instruction Time : 0

Correct Marks : 1 Wrong Marks : 0

Seventh Five Year Plan onwards, which sector got prominence by a sizeable percentage of resource allocation?

Options :

1. ✔ Energy
2. ✘ Agriculture and allied
3. ✘ Industry and minerals
4. ✘ Village and small scale industries

Question Number : 73 Question Id : 630680366739 Is Question Mandatory : No Calculator : None Response Time : N.A Think Time : N.A Minimum Instruction Time : 0

Correct Marks : 1 Wrong Marks : 0

పారిశ్రామిక విధాన తీర్మానం 1956 _____ ఆధారంగా ఏర్పడింది.

Options :

1. ✘ మొదటి పంచవర్ష ప్రణాళిక
2. ✔ రెండవ పంచవర్ష ప్రణాళిక
3. ✘ నాల్గవ పంచవర్ష ప్రణాళిక
4. ✘ ఏడవ పంచవర్ష ప్రణాళిక

Question Number : 73 Question Id : 630680366739 Is Question Mandatory : No Calculator : None Response Time : N.A Think Time : N.A Minimum Instruction Time : 0

Correct Marks : 1 Wrong Marks : 0

Industrial policy resolution 1956 formed the basis of the _____.

Options :

1. ✘ First Five Year Plan
2. ✔ Second Five Year Plan
3. ✘ Fourth Five Year Plan
4. ✘ Seventh Five Year Plan

Question Number : 74 Question Id : 630680366740 Is Question Mandatory : No Calculator : None Response Time : N.A Think Time : N.A Minimum Instruction Time : 0

Correct Marks : 1 Wrong Marks : 0

దిగువ వాటిని జతపర్చండి.

	సామాజిక పదం		సాధారణ పదం
I	షెడ్యూల్ కులం	1	ఆదివాసి
II	షెడ్యూల్ తెగ	2	అంటరానివారు
III	శారీరకంగా లేదా మానసికంగా సవాలు చేయబడిన వారు	3	వికలాంగులు

Options :

1. ✘ I-1, II-2, III-3
2. ✔ I-2, II-1, III-3
3. ✘ I-3, II-2, III-1
4. ✘ I-1, II-3, III-2

Question Number : 74 Question Id : 630680366740 Is Question Mandatory : No Calculator : None Response Time : N.A Think Time : N.A Minimum Instruction Time : 0

Correct Marks : 1 Wrong Marks : 0

Match the following.

	Social term		Casual term
I	Schedule Caste	1	Adivasi
II	Schedule Tribe	2	Untouchable
III	Physically or mentally challenged	3	disabled

Options :

1. ✘ I-1, II-2, III-3
2. ✔ I-2, II-1, III-3
3. ✘ I-3, II-2, III-1
4. ✘ I-1, II-3, III-2

Question Number : 75 Question Id : 630680366741 Is Question Mandatory : No Calculator : None Response Time : N.A Think Time : N.A Minimum Instruction Time : 0

Correct Marks : 1 Wrong Marks : 0

Which of the following pairs of 'Commission – Headed by' is/are correctly matched?

- I. First Backward Classes Commission – Kaka Kalelkar
- II. Second Backward Classes Commission – B.P. Mandal

Options :

1. ✘ Only I
2. ✘ Only II
3. ✔ Both I and II
4. ✘ Neither I nor II

Question Number : 75 Question Id : 630680366741 Is Question Mandatory : No Calculator : None Response Time : N.A Think Time : N.A Minimum Instruction Time : 0

Correct Marks : 1 Wrong Marks : 0

కమిషన్ – సారథ్యం వహించిన వారుకు సంబంధించి కింది జతలలో ఏది సరిగ్గా జతపర్చబడింది?

- I. మొదటి వెనుకబడిన తరగతుల కమిషన్ - కాకా కలేల్కర్
- II. రెండవ వెనుకబడిన తరగతుల కమిషన్ - బి.పి. మండల్

Options :

1. ✘ I మాత్రమే
2. ✘ II మాత్రమే

3. ✓ I మరియు II రెండూ
4. ✗ I కానీ II కానీ కాదు

Question Number : 76 Question Id : 630680366742 Is Question Mandatory : No Calculator : None Response Time : N.A Think Time : N.A Minimum Instruction Time : 0

Correct Marks : 1 Wrong Marks : 0

తెలంగాణకు దక్షిణాన మరియు ఆగ్నేయంలో ఏ రాష్ట్రం సరిహద్దుగా ఉంది?

Options :

1. ✗ చత్తీస్ గఢ్
2. ✓ ఆంధ్రప్రదేశ్
3. ✗ మహారాష్ట్ర
4. ✗ కర్ణాటక

Question Number : 76 Question Id : 630680366742 Is Question Mandatory : No Calculator : None Response Time : N.A Think Time : N.A Minimum Instruction Time : 0

Correct Marks : 1 Wrong Marks : 0

Telangana is bordered by which state on the South and South-East?

Options :

1. ✗ Chhattisgarh
2. ✓ Andhra Pradesh
3. ✗ Maharashtra
4. ✗ Karnataka

Question Number : 77 Question Id : 630680366743 Is Question Mandatory : No Calculator : None Response Time : N.A Think Time : N.A Minimum Instruction Time : 0

Correct Marks : 1 Wrong Marks : 0

తెలంగాణ రాష్ట్రంలో, TSMDC అంటే _____.

Options :

1. ✗ తెలంగాణ స్టేట్ మినరల్ డిటెక్షన్ కార్పొరేషన్ (Telangana State Mineral Detection Corporation)
2. ✗ తెలంగాణ స్టేట్ మైన్స్ డిటెక్షన్ కార్పొరేషన్ (Telangana State Mines Detection Corporation)
3. ✗ తెలంగాణ స్టేట్ మైన్స్ డెవెలప్మెంట్ కార్పొరేషన్ (Telangana State Mines Development Corporation)
4. ✓ తెలంగాణ స్టేట్ మినరల్ డెవెలప్మెంట్ కార్పొరేషన్ (Telangana State Mineral Development Corporation)

Question Number : 77 Question Id : 630680366743 Is Question Mandatory : No Calculator : None Response Time : N.A Think Time : N.A Minimum Instruction Time : 0

Correct Marks : 1 Wrong Marks : 0

In the state of Telangana, TSMDC stands for _____.

Options :

1. ✗ Telangana State Mineral Detection Corporation
2. ✗ Telangana State Mines Detection Corporation
3. ✗ Telangana State Mines Development Corporation
4. ✓ Telangana State Mineral Development Corporation

Question Number : 78 Question Id : 630680366744 Is Question Mandatory : No Calculator : None Response Time : N.A Think Time : N.A Minimum Instruction Time : 0

Correct Marks : 1 Wrong Marks : 0

తెలంగాణలో, గోదావరి ఒడ్డున ఉన్న ప్రాంతం దట్టమైన _____ అడవులతో నిండి ఉంటుంది.

Options :

1. ✓ తేకు
2. ✗ మర్రి
3. ✗ బకుల్
4. ✗ పొద

Question Number : 78 Question Id : 630680366744 Is Question Mandatory : No Calculator : None Response Time : N.A Think Time : N.A Minimum Instruction Time : 0

Correct Marks : 1 Wrong Marks : 0

In Telangana, along the banks of Godavari, the State is bestowed with dense _____ forests.

Options :

1. ✓ teak
2. ✗ banyan
3. ✗ bakul
4. ✗ shrub

Question Number : 79 Question Id : 630680366745 Is Question Mandatory : No Calculator : None Response Time : N.A Think Time : N.A Minimum Instruction Time : 0

Correct Marks : 1 Wrong Marks : 0

మూసీ నది తెలంగాణలోని ఏ నదికి ప్రధాన ఉపనది?

Options :

1. ✗ భీమ
2. ✗ గోదావరి
3. ✓ కృష్ణ
4. ✗ వార్ధా

Question Number : 79 Question Id : 630680366745 Is Question Mandatory : No Calculator : None Response Time : N.A Think Time : N.A Minimum Instruction Time : 0

Correct Marks : 1 Wrong Marks : 0

The Musi river is a major tributary of which river in Telangana?

Options :

1. ✗ Bhima
2. ✗ Godavari
3. ✓ Krishna
4. ✗ Wardha

Question Number : 80 Question Id : 630680366746 Is Question Mandatory : No Calculator : None Response Time : N.A Think Time : N.A Minimum Instruction Time : 0

Correct Marks : 1 Wrong Marks : 0

హైదరాబాద్ మరియు దాని పరిసర మునిసిపాలిటీలు గోదావరి నది నుండి నీటిని కింది వాటిలో ఏ ప్రాజెక్టు నుండి పొందుతాయి?

Options :

1. ✓ రామగుండం ప్రాజెక్ట్
2. ✗ యాసంగి ప్రాజెక్టు
3. ✗ కాళేశ్వరం ప్రాజెక్టు
4. ✗ మిషన్ భగీరథ ప్రాజెక్ట్

Question Number : 80 Question Id : 630680366746 Is Question Mandatory : No Calculator : None Response Time : N.A Think Time : N.A Minimum Instruction Time : 0

Correct Marks : 1 Wrong Marks : 0

Hyderabad and its surrounding municipalities get water from the Godavari river from which of the following projects?

Options :

1. ✓ Ramagundam project
2. ✗ Yasangi project
3. ✗ Kaleshwaram project
4. ✗ Mission Bhagiratha project

Question Number : 81 Question Id : 630680366747 Is Question Mandatory : No Calculator : None Response Time : N.A Think Time : N.A Minimum Instruction Time : 0

Correct Marks : 1 Wrong Marks : 0

తెలంగాణ రాష్ట్రం 2015 నుండి 2021 వరకు అటవీ విస్తీర్ణంలో _____ పెరుగుదలను నమోదు చేసింది.

Options :

1. ✗ 11%
2. ✓ 6.85%
3. ✗ 7.25%
4. ✗ 9%

Question Number : 81 Question Id : 630680366747 Is Question Mandatory : No Calculator : None Response Time : N.A Think Time : N.A Minimum Instruction Time : 0

Correct Marks : 1 Wrong Marks : 0

Telangana State registered an increase of _____ in forest cover from 2015 to 2021.

Options :

1. ✘ 11%
2. ✔ 6.85%
3. ✘ 7.25%
4. ✘ 9%

Question Number : 82 Question Id : 630680366748 Is Question Mandatory : No Calculator : None Response Time : N.A Think Time : N.A Minimum Instruction Time : 0

Correct Marks : 1 Wrong Marks : 0

పీరియోడిక్ లేబర్ ఫోర్స్ (కార్మిక శక్తి) సర్వే (PLFS) ప్రకారం, 2020-21లో, తెలంగాణ లేబర్ ఫోర్స్ పార్టిసిపేషన్ రేట్ (LFPR) ఎంత?

Options :

1. ✘ 55.5%
2. ✔ 65.4%
3. ✘ 77.5%
4. ✘ 80%

Question Number : 82 Question Id : 630680366748 Is Question Mandatory : No Calculator : None Response Time : N.A Think Time : N.A Minimum Instruction Time : 0

Correct Marks : 1 Wrong Marks : 0

According to the Periodic Labour Force Survey (PLFS), in 2020-21, what was Telangana's Labour Force Participation Rate (LFPR)?

Options :

1. ✘ 55.5%
2. ✔ 65.4%
3. ✘ 77.5%
4. ✘ 80%

Question Number : 83 Question Id : 630680366749 Is Question Mandatory : No Calculator : None Response Time : N.A Think Time : N.A Minimum Instruction Time : 0

Correct Marks : 1 Wrong Marks : 0

2020-21లో 15-59 ఏళ్ల కేటగిరీకి సంబంధించి తెలంగాణ యొక్క కార్మిక నిష్పత్తి (WPR) ఎంత?

Options :

1. ✔ 62%
2. ✘ 72%
3. ✘ 77%
4. ✘ 80%

Question Number : 83 Question Id : 630680366749 Is Question Mandatory : No Calculator : None Response Time : N.A Think Time : N.A Minimum Instruction Time : 0

Correct Marks : 1 Wrong Marks : 0

What was Telangana's Worker Population Ratio (WPR) for the 15-59 age category in 2020-21?

Options :

1. ✔ 62%
2. ✘ 72%
3. ✘ 77%
4. ✘ 80%

Question Number : 84 Question Id : 630680366750 Is Question Mandatory : No Calculator : None Response Time : N.A Think Time : N.A Minimum Instruction Time : 0

Correct Marks : 1 Wrong Marks : 0

What is the name of the Telangana Government scheme launched to curtail the burden of girl marriage by providing one-time grant of Rs.1,00,116 to unmarried girls from SC, ST, BC and Minority families with combined income of both parents not exceeding Rs.2,00,000 per annum?

Options :

1. ✘ Dalit Bandhu
2. ✘ Rythu Bandhu
3. ✔ Kalyana Lakshmi
4. ✘ Arogya Lakshmi

Question Number : 84 Question Id : 630680366750 Is Question Mandatory : No Calculator : None Response Time : N.A Think Time : N.A Minimum Instruction Time : 0

Correct Marks : 1 Wrong Marks : 0

తల్లిదండ్రుల ఇద్దరి ఆదాయం కలిపి సంవత్సరానికి రూ. 2,00,000 లకు మించకుండా ఉండేలా, SC, ST, BC మరియు మైనారిటీ కుటుంబాలకు చెందిన పిల్లలకు బాలికలకు రూ.1,00,116 ఒకేసారి మంజూరు చేయడం ద్వారా ఆడపిల్లల వివాహ భారాన్ని తగ్గించడానికి తెలంగాణ ప్రభుత్వం ప్రారంభించిన పథకం పేరు ఏమిటి?

Options :

1. * దళిత బంధు
2. * రైతు బంధు
3. ✓ కళ్యాణలక్ష్మి
4. * ఆరోగ్య లక్ష్మి

Question Number : 85 Question Id : 630680366751 Is Question Mandatory : No Calculator : None Response Time : N.A Think Time : N.A Minimum Instruction Time : 0

Correct Marks : 1 Wrong Marks : 0

2009లో జియోగ్రాఫికల్ ఇండికేషన్ (GI) ట్యాగ్ని అందుకున్న తెలంగాణలోని ఆదిలాబాద్ జిల్లా _____ కి ప్రసిద్ధి చెందింది.

Options :

1. ✓ నిర్మల్ ఫర్నిచర్
2. * మెటల్ చేతిపనులు
3. * తోలు పరిశ్రమలు
4. * దట్టమైన అడవులు

Question Number : 85 Question Id : 630680366751 Is Question Mandatory : No Calculator : None Response Time : N.A Think Time : N.A Minimum Instruction Time : 0

Correct Marks : 1 Wrong Marks : 0

The Adilabad district of Telangana is known for its _____, which received a Geographical Indication (GI) tag in 2009.

Options :

1. ✓ Nirmal furniture
2. * metal crafts
3. * leather industry
4. * dense forests

Question Number : 86 Question Id : 630680366752 Is Question Mandatory : No Calculator : None Response Time : N.A Think Time : N.A Minimum Instruction Time : 0

Correct Marks : 1 Wrong Marks : 0

31 జూలై 2023 నాటికి తెలంగాణలో విద్యుత్ స్థాపిత సామర్థ్యం ఎంత?

Options :

1. * 12,000 మెగావాట్లు
2. * 14,500 మెగావాట్లు
3. ✓ 18,069 మెగావాట్లు
4. * 25,050 మెగావాట్లు

Question Number : 86 Question Id : 630680366752 Is Question Mandatory : No Calculator : None Response Time : N.A Think Time : N.A Minimum Instruction Time : 0

Correct Marks : 1 Wrong Marks : 0

What is the Installed capacity of power in Telangana as on 31 July 2023?

Options :

1. * 12,000 MW
2. * 14,500 MW
3. ✓ 18,069 MW
4. * 25,050 MW

Question Number : 87 Question Id : 630680366753 Is Question Mandatory : No Calculator : None Response Time : N.A Think Time : N.A Minimum Instruction Time : 0

Correct Marks : 1 Wrong Marks : 0

పీరియాడిక్ లేబర్ ఫోర్స్ సర్వే (PLFS) నుండి వచ్చిన డేటా ప్రకారం 2019-20 మరియు 2020-21 మధ్య, తెలంగాణలో నిరుద్యోగం రేటు 15-59 సంవత్సరాల వయస్సు గల జనాభాలో 7.5% నుండి _____ కి తగ్గింది.

Options :

1. ✓ 5.1%
2. ✗ 4%
3. ✗ 4.5%
4. ✗ 3.3%

Question Number : 87 Question Id : 630680366753 Is Question Mandatory : No Calculator : None Response Time : N.A Think Time : N.A Minimum Instruction Time : 0

Correct Marks : 1 Wrong Marks : 0

Data from Periodic Labour Force Survey (PLFS) reflects that between 2019-20 and 2020-21, the unemployment rate in Telangana declined from 7.5% to _____ among the working age population of 15-59 years.

Options :

1. ✓ 5.1%
2. ✗ 4%
3. ✗ 4.5%
4. ✗ 3.3%

Question Number : 88 Question Id : 630680366754 Is Question Mandatory : No Calculator : None Response Time : N.A Think Time : N.A Minimum Instruction Time : 0

Correct Marks : 1 Wrong Marks : 0

తెలంగాణ రాష్ట్ర అధికారిక భాషలు తెలుగు మరియు _____.

Options :

1. ✗ హిందీ
2. ✓ ఉర్దూ
3. ✗ కన్నడ
4. ✗ మరాఠీ

Question Number : 88 Question Id : 630680366754 Is Question Mandatory : No Calculator : None Response Time : N.A Think Time : N.A Minimum Instruction Time : 0

Correct Marks : 1 Wrong Marks : 0

The official languages of Telangana state are Telugu and _____.

Options :

1. ✗ Hindi
2. ✓ Urdu
3. ✗ Kannada
4. ✗ Marathi

Question Number : 89 Question Id : 630680366755 Is Question Mandatory : No Calculator : None Response Time : N.A Think Time : N.A Minimum Instruction Time : 0

Correct Marks : 1 Wrong Marks : 0

తెలంగాణలోని జనగాం జిల్లాలోని పెంబర్తి గ్రామం _____కి ప్రసిద్ధి చెందింది.

Options :

1. ✗ పెంబర్తి పెయింటింగులు
2. ✗ పెంబర్తి లెదర్ వర్క్స్
3. ✗ పెంబర్తి చెక్క చేతిపనులు
4. ✓ పెంబర్తి మెటల్ క్రాఫ్ట్స్

Question Number : 89 Question Id : 630680366755 Is Question Mandatory : No Calculator : None Response Time : N.A Think Time : N.A Minimum Instruction Time : 0

Correct Marks : 1 Wrong Marks : 0

Pembarthi village in Jangaon district of Telangana is famous for _____.

Options :

1. ✗ Pembarthi paintings
2. ✗ Pembarthi leather works
3. ✗ Pembarthi wooden crafts
4. ✓ Pembarthi metal crafts

Question Number : 90 Question Id : 630680366756 Is Question Mandatory : No Calculator : None Response Time : N.A Think Time : N.A Minimum Instruction Time : 0

Correct Marks : 1 Wrong Marks : 0

SERP అనేది తెలంగాణ ప్రభుత్వానికి చక్కటి సహాయక నిర్మాణం. SERP విస్తరణ రూపం _____.

Options :

1. ✘ సోషల్ వే ఆఫ్ ఎలిమినేటింగ్ రూరల్ పావర్టీ (Social way of Eliminating Rural Poverty)
2. ✘ సోషల్ అండ్ ఎకనామిక్ డెవలప్మెంట్ ఆఫ్ రూరల్ పావర్టీ (Social and Economic development of Rural Poverty)
3. ✔ సొసైటీ ఫర్ ఎలిమినేషన్ ఆఫ్ రూరల్ పావర్టీ (Society for Elimination of Rural Poverty)
4. ✘ స్ట్రక్చర్ ఫర్ ఎకనామిక్ గ్రోత్ ఆఫ్ రూరల్ పావర్టీ (Structure for Economic growth of Rural Poverty)

Question Number : 90 Question Id : 630680366756 Is Question Mandatory : No Calculator : None Response Time : N.A Think Time : N.A Minimum Instruction Time : 0

Correct Marks : 1 Wrong Marks : 0

SERP is a sensitive supportive structure of Telangana Government. SERP stands for _____.

Options :

1. ✘ Social way of Eliminating Rural Poverty
2. ✘ Social and Economic development of Rural Poverty
3. ✔ Society for Elimination of Rural Poverty
4. ✘ Structure for Economic growth of Rural Poverty

Question Number : 91 Question Id : 630680366757 Is Question Mandatory : No Calculator : None Response Time : N.A Think Time : N.A Minimum Instruction Time : 0

Correct Marks : 1 Wrong Marks : 0

తెలంగాణలోని గోల్కొండ కోటలో ఉన్న మెట్ల బావి _____లో సాంస్కృతిక వారసత్వ పరిరక్షణ కోసం యునెస్కో యొక్క ఆసియా-పసిఫిక్ అవార్డ్స్ నుంచి విశిష్ట పురస్కారం గెలుచుకుంది.

Options :

1. ✔ నవంబర్ 2022
2. ✘ సెప్టెంబర్ 2022
3. ✘ నవంబర్ 2021
4. ✘ డిసెంబర్ 2021

Question Number : 91 Question Id : 630680366757 Is Question Mandatory : No Calculator : None Response Time : N.A Think Time : N.A Minimum Instruction Time : 0

Correct Marks : 1 Wrong Marks : 0

Award of distinction from UNESCO's Asia-Pacific Awards for Cultural Heritage Conservation was won by step-wells of the Golconda fort of Telangana in _____.

Options :

1. ✔ November 2022
2. ✘ September 2022
3. ✘ November 2021
4. ✘ December 2021

Question Number : 92 Question Id : 630680366758 Is Question Mandatory : No Calculator : None Response Time : N.A Think Time : N.A Minimum Instruction Time : 0

Correct Marks : 1 Wrong Marks : 0

తమ ప్రాంతానికి చెందిన అందమైన పూలతో మహిళలు నిర్వహించే బతుకమ్మ అనేది ఏ రాష్ట్రానికి చెందిన రంగుల పూల పండుగ?

Options :

1. ✘ మహారాష్ట్ర
2. ✔ తెలంగాణ
3. ✘ రాజస్థాన్
4. ✘ తమిళనాడు

Question Number : 92 Question Id : 630680366758 Is Question Mandatory : No Calculator : None Response Time : N.A Think Time : N.A Minimum Instruction Time : 0

Correct Marks : 1 Wrong Marks : 0

Bathukamma is a colourful floral festival of which state that is celebrated by women with exotic flowers of the region?

Options :

1. ✘ Maharashtra
2. ✔ Telangana

- 3. ✖ Rajasthan
- 4. ✖ Tamil Nadu

Question Number : 93 Question Id : 630680366759 Is Question Mandatory : No Calculator : None Response Time : N.A Think Time : N.A Minimum Instruction Time : 0

Correct Marks : 1 Wrong Marks : 0

TS-iPASS stands for _____

Options :

- 1. ✔ Telangana State Industrial Project Approval and Self-Certification System
- 2. ✖ Telangana State Incoming Pass Approval and Self-Certification System
- 3. ✖ Telangana State Incoming Pass Approval and Self-Clarification System
- 4. ✖ Telangana State Industrial Project Approval and Self-Clarification System

Question Number : 93 Question Id : 630680366759 Is Question Mandatory : No Calculator : None Response Time : N.A Think Time : N.A Minimum Instruction Time : 0

Correct Marks : 1 Wrong Marks : 0

TS-iPASS అంటే _____

Options :

- 1. ✔ తెలంగాణ స్టేట్ ఇండస్ట్రియల్ ప్రాజెక్ట్ అప్రూవల్ అండ్ సెల్ఫ్ - సర్టిఫికేషన్ సిస్టమ్ (Telangana State Industrial Project Approval and Self-Certification System)
- 2. ✖ తెలంగాణ స్టేట్ ఇన్ కమింగ్ పాస్ అప్రూవల్ అండ్ సెల్ఫ్ - సర్టిఫికేషన్ సిస్టమ్ (Telangana State Incoming Pass Approval and Self-Certification System)
- 3. ✖ తెలంగాణ స్టేట్ ఇన్ కమింగ్ పాస్ అప్రూవల్ అండ్ సెల్ఫ్ - క్లారిఫికేషన్ సిస్టమ్ (Telangana State Incoming Pass Approval and Self-Clarification System)
- 4. ✖ తెలంగాణ స్టేట్ ఇండస్ట్రియల్ ప్రాజెక్ట్ అప్రూవల్ అండ్ సెల్ఫ్ - క్లారిఫికేషన్ సిస్టమ్ (Telangana State Industrial Project Approval and Self-Clarification System)

Question Number : 94 Question Id : 630680366760 Is Question Mandatory : No Calculator : None Response Time : N.A Think Time : N.A Minimum Instruction Time : 0

Correct Marks : 1 Wrong Marks : 0

కింది వాటిలో ఏది తెలంగాణ రాష్ట్రంలో అమలు చేస్తున్న ఆరోగ్య లక్ష్మి పథకానికి సంబంధించినది?

Options :

- 1. ✖ వృద్ధాప్య పింఛను
- 2. ✖ వితంతు పింఛను
- 3. ✔ తల్లి మరియు పిల్లల సంరక్షణ
- 4. ✖ వికలాంగుల పెన్షన్

Question Number : 94 Question Id : 630680366760 Is Question Mandatory : No Calculator : None Response Time : N.A Think Time : N.A Minimum Instruction Time : 0

Correct Marks : 1 Wrong Marks : 0

Which of the following is related to Arogya Lakshmi scheme in Telangana state?

Options :

- 1. ✖ old age pension
- 2. ✖ widow pension
- 3. ✔ maternal and childcare
- 4. ✖ disabled pension

Question Number : 95 Question Id : 630680366761 Is Question Mandatory : No Calculator : None Response Time : N.A Think Time : N.A Minimum Instruction Time : 0

Correct Marks : 1 Wrong Marks : 0

తెలంగాణ ప్రభుత్వం “మన ఊరు-మన బడి / మన బస్టి-మన బడి” పథకాన్ని ప్రారంభించింది, ఇది రాష్ట్రంలోని ప్రభుత్వ పాఠశాలల్లో మౌలిక సదుపాయాలను మెరుగుపరచడంపై దృష్టి సారించింది. ఈ పథకం _____లో ప్రారంభించబడింది.

Options :

- 1. ✖ డిసెంబర్ 2021
- 2. ✔ జనవరి 2022
- 3. ✖ ఏప్రిల్ 2022
- 4. ✖ ఏప్రిల్ 2023

Question Number : 95 Question Id : 630680366761 Is Question Mandatory : No Calculator : None Response Time : N.A Think Time : N.A Minimum Instruction Time : 0

Correct Marks : 1 Wrong Marks : 0

Telangana Government launched the “Mana Ooru-Mana Badi / Mana Basti-Mana Badi” scheme, which focuses on upgradation of infrastructure facilities in government schools in the state. The scheme was launched in _____.

Options :

1. ✘ December 2021
2. ✔ January 2022
3. ✘ April 2022
4. ✘ April 2023

Question Number : 96 Question Id : 630680366762 Is Question Mandatory : No Calculator : None Response Time : N.A Think Time : N.A Minimum Instruction Time : 0

Correct Marks : 1 Wrong Marks : 0

2017లో, తెలంగాణ ప్రభుత్వం రాష్ట్రంలోని ఏ జిల్లాలో కాకతీయ మెగా టెక్స్టైల్ పార్క్‌ను స్థాపించింది, తెలంగాణలో అత్యధికంగా పత్తిని పండించే జిల్లా ఏది?

Options :

1. ✘ నల్గొండ
2. ✘ సూర్యాపేట
3. ✔ వరంగల్
4. ✘ కరీంనగర్

Question Number : 96 Question Id : 630680366762 Is Question Mandatory : No Calculator : None Response Time : N.A Think Time : N.A Minimum Instruction Time : 0

Correct Marks : 1 Wrong Marks : 0

In 2017, the Telangana Government established the Kakatiya Mega Textile Park in which district of the state, which is also the highest cotton-growing district of Telangana?

Options :

1. ✘ Nalgonda
2. ✘ Suryapet
3. ✔ Warangal
4. ✘ Karimnagar

Question Number : 97 Question Id : 630680366763 Is Question Mandatory : No Calculator : None Response Time : N.A Think Time : N.A Minimum Instruction Time : 0

Correct Marks : 1 Wrong Marks : 0

లాస్ట్ - వ్యాక్స్ పద్ధతిని ఉపయోగించి తయారు చేసే డోక్రా మెటల్ కళాఖండాలకు తెలంగాణలోని ఆదిలాబాద్ జిల్లాలోని ఏ గ్రామం ప్రసిద్ధి చెందింది?

Options :

1. ✔ ఉషేగావ్
2. ✘ అంకాపూర్
3. ✘ కందకుర్తి
4. ✘ వీర్నపాల్

Question Number : 97 Question Id : 630680366763 Is Question Mandatory : No Calculator : None Response Time : N.A Think Time : N.A Minimum Instruction Time : 0

Correct Marks : 1 Wrong Marks : 0

Which village in Adilabad district of Telangana is known for Dokra metal artifacts, made by employing the lost-wax method?

Options :

1. ✔ Ushegaon
2. ✘ Ankapur
3. ✘ Kandakurthi
4. ✘ Veernapall

Question Number : 98 Question Id : 630680366764 Is Question Mandatory : No Calculator : None Response Time : N.A Think Time : N.A Minimum Instruction Time : 0

Correct Marks : 1 Wrong Marks : 0

తెలంగాణలో, గోల్కొండ శ్రేణ్డమార్క్ అనేది ఈ శ్రేణ్డమార్క్ కింద రాష్ట్రం యొక్క _____ ని ప్రచారం చేసే పనిలో ఉంది.

Options :

1. ✘ మత్స్య రంగాలు
2. ✘ పాడి పరిశ్రమ
3. ✘ తోలు పరిశ్రమ
4. ✔ హస్తకళలు

Question Number : 98 Question Id : 630680366764 Is Question Mandatory : No Calculator : None Response Time : N.A Think Time : N.A Minimum Instruction Time : 0

Correct Marks : 1 Wrong Marks : 0

In Telangana, Golkonda trademark is tasked with publicizing the state's _____ under this trademark.

Options :

1. ✘ fisheries sectors
2. ✘ dairy industry
3. ✘ leather industry
4. ✔ handicrafts

Question Number : 99 Question Id : 630680366765 Is Question Mandatory : No Calculator : None Response Time : N.A Think Time : N.A Minimum Instruction Time : 0

Correct Marks : 1 Wrong Marks : 0

జనాభా పరంగా (2011 జనాభా లెక్కల ఆధారంగా) భారతదేశంలో తెలంగాణ రాష్ట్రం ర్యాంక్ ఎంత?

Options :

1. ✔ 12వ
2. ✘ 14వ
3. ✘ 16వ
4. ✘ 9వ

Question Number : 99 Question Id : 630680366765 Is Question Mandatory : No Calculator : None Response Time : N.A Think Time : N.A Minimum Instruction Time : 0

Correct Marks : 1 Wrong Marks : 0

What is the rank of Telangana state in India in terms of population (on the basis of the findings of 2011 Census)?

Options :

1. ✔ 12th
2. ✘ 14th
3. ✘ 16th
4. ✘ 9th

Question Number : 100 Question Id : 630680366766 Is Question Mandatory : No Calculator : None Response Time : N.A Think Time : N.A Minimum Instruction Time : 0

Correct Marks : 1 Wrong Marks : 0

తెలంగాణ ప్రభుత్వం రైతు బంధు పథకం కింద రాష్ట్రంలో భూమిని కలిగి ఉన్న రైతులకు సంవత్సరానికి ఎకరాకు ఎన్ని రూపాయల ఆర్థిక సహాయం అందిస్తుంది?

Options :

1. ✘ 5,000
2. ✔ 10,000
3. ✘ 12,000
4. ✘ 15,000

Question Number : 100 Question Id : 630680366766 Is Question Mandatory : No Calculator : None Response Time : N.A Think Time : N.A Minimum Instruction Time : 0

Correct Marks : 1 Wrong Marks : 0

The Rythu Bandhu Scheme of Telangana Govt. provides financial support of how many rupees per acre per year to the landowning farmers in the State?

Options :

1. ✘ 5,000
2. ✔ 10,000
3. ✘ 12,000
4. ✘ 15,000

Question Number : 101 Question Id : 630680366767 Is Question Mandatory : No Calculator : None Response Time : N.A Think

Time : N.A Minimum Instruction Time : 0

Correct Marks : 1 Wrong Marks : 0

తెలంగాణ ఆసరా పెన్షన్ పథకం _____ లో ప్రారంభించబడింది.

Options :

1. ✘ నవంబర్ 2010
2. ✘ అక్టోబర్ 2021
3. ✘ మార్చి 2014
4. ✔ నవంబర్ 2014

Question Number : 101 Question Id : 630680366767 Is Question Mandatory : No Calculator : None Response Time : N.A Think Time : N.A Minimum Instruction Time : 0

Correct Marks : 1 Wrong Marks : 0

Aasara Pension scheme of Telangana was launched in _____.

Options :

1. ✘ November 2010
2. ✘ October 2021
3. ✘ March 2014
4. ✔ November 2014

Question Number : 102 Question Id : 630680366768 Is Question Mandatory : No Calculator : None Response Time : N.A Think Time : N.A Minimum Instruction Time : 0

Correct Marks : 1 Wrong Marks : 0

Under the KCR Kit scheme in Telangana, mothers are being provided with the financial assistance of _____ to compensate for the loss of wages by the women during the pregnancy and postnatal period.

Options :

1. ✘ Rs.15,000
2. ✘ Rs.10,000
3. ✔ Rs.12,000
4. ✘ Rs.20,000

Question Number : 102 Question Id : 630680366768 Is Question Mandatory : No Calculator : None Response Time : N.A Think Time : N.A Minimum Instruction Time : 0

Correct Marks : 1 Wrong Marks : 0

తెలంగాణలో కేసీఆర్ కిట్ పథకం కింద, గర్భధారణ మరియు ప్రసవనంతర కాలంలో వేతనాల నష్టాన్ని భర్తీ చేయడానికి తల్లులకు _____ ఆర్థిక సహాయం అందజేస్తున్నారు.

Options :

1. ✘ రూ.15,000
2. ✘ రూ.10,000
3. ✔ రూ.12,000
4. ✘ రూ.20,000

Question Number : 103 Question Id : 630680366769 Is Question Mandatory : No Calculator : None Response Time : N.A Think Time : N.A Minimum Instruction Time : 0

Correct Marks : 1 Wrong Marks : 0

తెలంగాణలో కంటి వెలుగు గురించి కింది వాటిలో ఏది సత్యం?

Options :

1. ✘ ఇది వృద్ధాప్య పింఛను పథకం.
2. ✘ ఇది స్కాలర్‌షిప్ పథకం.
3. ✘ ఇది స్వచ్ఛమైన తాగునీటి పథకం.
4. ✔ ఇది కమ్యూనిటీ కంటి పరీక్ష కార్యక్రమం

Question Number : 103 Question Id : 630680366769 Is Question Mandatory : No Calculator : None Response Time : N.A Think Time : N.A Minimum Instruction Time : 0

Correct Marks : 1 Wrong Marks : 0

In Telangana, which statement is true from the following about Kanti Velugu?

Options :

1. ✘ It is an old age pension scheme.
2. ✘ It is a scholarship scheme.

3. ✘ It is a clean drinking water scheme.
4. ✔ It is a community eye-screening programme.

Question Number : 104 Question Id : 630680366770 Is Question Mandatory : No Calculator : None Response Time : N.A Think Time : N.A Minimum Instruction Time : 0

Correct Marks : 1 Wrong Marks : 0

తెలంగాణ అకాడమీ ఫర్ స్కిల్ అండ్ నాలెడ్జ్ (TASK) ఏ సంవత్సరంలో స్థాపించబడింది?

Options :

1. ✔ 2014
2. ✘ 2009
3. ✘ 2022
4. ✘ 2010

Question Number : 104 Question Id : 630680366770 Is Question Mandatory : No Calculator : None Response Time : N.A Think Time : N.A Minimum Instruction Time : 0

Correct Marks : 1 Wrong Marks : 0

Telangana Academy for Skill and Knowledge (TASK) was set up in which year?

Options :

1. ✔ 2014
2. ✘ 2009
3. ✘ 2022
4. ✘ 2010

Question Number : 105 Question Id : 630680366771 Is Question Mandatory : No Calculator : None Response Time : N.A Think Time : N.A Minimum Instruction Time : 0

Correct Marks : 1 Wrong Marks : 0

తెలంగాణ ప్రభుత్వం తన ప్లాగ్‌షిప్ ప్రోగ్రామ్ “తెలంగాణకు హరితహారం (TKHH)ని _____ లో ప్రారంభించింది.

Options :

1. ✘ 2009
2. ✔ 2015-16
3. ✘ 2011
4. ✘ 2012-13

Question Number : 105 Question Id : 630680366771 Is Question Mandatory : No Calculator : None Response Time : N.A Think Time : N.A Minimum Instruction Time : 0

Correct Marks : 1 Wrong Marks : 0

The Telangana Government launched its flagship programme “Telangana Ku Haritha Haram (Green Garland for Telangana)” (TKHH) in _____.

Options :

1. ✘ 2009
2. ✔ 2015-16
3. ✘ 2011
4. ✘ 2012-13

Question Number : 106 Question Id : 630680366772 Is Question Mandatory : No Calculator : None Response Time : N.A Think Time : N.A Minimum Instruction Time : 0

Correct Marks : 1 Wrong Marks : 0

తెలంగాణ రాష్ట్రంలో అత్యధిక రహదారి సాంద్రత కలిగిన జిల్లా ఏది?

Options :

1. ✘ మేడ్చల్ మల్కాజిగిరి
2. ✘ రంగారెడ్డి
3. ✔ హైదరాబాద్
4. ✘ నిజామాబాద్

Question Number : 106 Question Id : 630680366772 Is Question Mandatory : No Calculator : None Response Time : N.A Think Time : N.A Minimum Instruction Time : 0

Correct Marks : 1 Wrong Marks : 0

Which district has the highest road density in Telangana state?

Options :

1. ✘ Medchal Malkajgiri
2. ✘ Rangareddy
3. ✔ Hyderabad
4. ✘ Nizamabad

Question Number : 107 Question Id : 630680366773 Is Question Mandatory : No Calculator : None Response Time : N.A Think Time : N.A Minimum Instruction Time : 0

Correct Marks : 1 Wrong Marks : 0

తెలంగాణ రాష్ట్రం ఏర్పడిన సంవత్సరం _____.

Options :

1. ✘ 2009
2. ✘ 2011
3. ✘ 2012
4. ✔ 2014

Question Number : 107 Question Id : 630680366773 Is Question Mandatory : No Calculator : None Response Time : N.A Think Time : N.A Minimum Instruction Time : 0

Correct Marks : 1 Wrong Marks : 0

Formation year of Telangana state was _____.

Options :

1. ✘ 2009
2. ✘ 2011
3. ✘ 2012
4. ✔ 2014

Question Number : 108 Question Id : 630680366774 Is Question Mandatory : No Calculator : None Response Time : N.A Think Time : N.A Minimum Instruction Time : 0

Correct Marks : 1 Wrong Marks : 0

తెలంగాణ ప్రభుత్వం 'తెలంగాణ పంచాయతీ రాజ్ చట్టాన్ని' ఏ సంవత్సరంలో ప్రకటించింది?

Options :

1. ✘ 2020
2. ✘ 2023
3. ✔ 2018
4. ✘ 2015

Question Number : 108 Question Id : 630680366774 Is Question Mandatory : No Calculator : None Response Time : N.A Think Time : N.A Minimum Instruction Time : 0

Correct Marks : 1 Wrong Marks : 0

The Telangana Government promulgated 'The Telangana Panchayat Raj Act' in which year?

Options :

1. ✘ 2020
2. ✘ 2023
3. ✔ 2018
4. ✘ 2015

Question Number : 109 Question Id : 630680366775 Is Question Mandatory : No Calculator : None Response Time : N.A Think Time : N.A Minimum Instruction Time : 0

Correct Marks : 1 Wrong Marks : 0

31 జూలై 2023 నాటికి, తెలంగాణ రాష్ట్రంలోని మొత్తం జిల్లాల సంఖ్య ఎంత?

Options :

1. ✔ 33
2. ✘ 10
3. ✘ 23
4. ✘ 42

Question Number : 109 Question Id : 630680366775 Is Question Mandatory : No Calculator : None Response Time : N.A Think Time : N.A Minimum Instruction Time : 0

Correct Marks : 1 Wrong Marks : 0

As on 31 July 2023, what is the total number of districts in Telangana state?

Options :

1. ✓ 33
2. ✗ 10
3. ✗ 23
4. ✗ 42

Question Number : 110 Question Id : 630680366776 Is Question Mandatory : No Calculator : None Response Time : N.A Think Time : N.A Minimum Instruction Time : 0

Correct Marks : 1 Wrong Marks : 0

2019లో ప్రారంభించిన తెలంగాణ రాష్ట్ర ప్రభుత్వ కార్యక్రమం 'పల్లె ప్రగతి' పథకం యొక్క లక్ష్యం ఏమిటి?

Options :

1. ✗ సాంకేతిక విద్యను అందించడం
2. ✗ రైతులకు విత్తనాలు, ఎరువులు అందించడం
3. ✗ పట్టణ ప్రాంతాల్లో జీవన నాణ్యతను పెంచడం
4. ✓ గ్రామీణ ప్రాంతాల్లో జీవన నాణ్యతను పెంపొందించడం

Question Number : 110 Question Id : 630680366776 Is Question Mandatory : No Calculator : None Response Time : N.A Think Time : N.A Minimum Instruction Time : 0

Correct Marks : 1 Wrong Marks : 0

What was the objective of Telangana state government programme 'Palle Pragathi' which was launched in 2019?

Options :

1. ✗ providing technical education
2. ✗ provisioning of seeds and fertilisers to the farmers
3. ✗ enhancing the quality of life in urban areas
4. ✓ enhancing the quality of life in rural areas

Question Number : 111 Question Id : 630680366777 Is Question Mandatory : No Calculator : None Response Time : N.A Think Time : N.A Minimum Instruction Time : 0

Correct Marks : 1 Wrong Marks : 0

కింది ప్రశ్నలో కొన్ని ప్రకటనలు ఇవ్వబడ్డాయి, ఆ ప్రకటనల ఆధారంగా కొన్ని పర్యవసానాలు ఇవ్వబడ్డాయి. ఇచ్చిన ప్రకటనలు సాధారణంగా తెలిసిన వాస్తవాలకు భిన్నంగా ఉన్నట్లు అనిపించినప్పటికీ వాటిని వాస్తవంగా పరిగణించాలి. అన్ని పర్యవసానాలను చదివి, ఇచ్చిన పర్యవసానాలలో ఏది తార్కికంగా ఇవ్వబడిన ప్రకటనలను అనుసరిస్తాయో నిర్ణయించండి.

ప్రకటనలు:

- I. బాటిల్ ఏదీ కూడా గ్లాస్ కాదు.
- II. కొంత నీరు, బాటిల్ అవుతుంది.

పర్యవసానం:

- I. కొంత నీరు గ్లాస్ కాదు.
- II. గ్లాసులన్నీ నీరే.

Options :

1. ✓ పర్యవసానం I మాత్రమే అనుసరిస్తుంది
2. ✗ పర్యవసానం II మాత్రమే అనుసరిస్తుంది
3. ✗ I మరియు II రెండు పర్యవసానాలు అనుసరిస్తాయి
4. ✗ ఏ పర్యవసానం కూడా అనుసరించదు

Question Number : 111 Question Id : 630680366777 Is Question Mandatory : No Calculator : None Response Time : N.A Think Time : N.A Minimum Instruction Time : 0

Correct Marks : 1 Wrong Marks : 0

In the following question below are given some statements followed by some conclusions based on those statements. Taking the given statements to be true even if they seem to be at variance from commonly known facts. Read all the conclusions and then decide which of the given conclusion logically follows the given statements.

Statements:

- I. No Bottle is a Glass.
- II. Some Water are Bottles.

Conclusion:

- I. Some Water are not Glasses.
- II. All Glasses are Water.

Options :

1. ✓ Only conclusion I follows
2. ✗ Only conclusion II follows

3. ✖ Both conclusions I and II follows

4. ✖ Neither conclusion follows

Question Number : 112 Question Id : 630680366778 Is Question Mandatory : No Calculator : None Response Time : N.A Think Time : N.A Minimum Instruction Time : 0

Correct Marks : 1 Wrong Marks : 0

కింది ప్రశ్నలో కొన్ని ప్రకటనలు ఇవ్వబడ్డాయి, ఆ ప్రకటనల ఆధారంగా కొన్ని పర్యవసానాలు ఇవ్వబడ్డాయి. ఇచ్చిన ప్రకటనలు సాధారణంగా తెలిసిన వాస్తవాలకు భిన్నంగా ఉన్నట్లు అనిపించినప్పటికీ వాటిని వాస్తవంగా పరిగణించాలి. అన్ని పర్యవసానాలను చదివి, ఇచ్చిన పర్యవసానాలలో ఏది తార్కికంగా ఇవ్వబడిన ప్రకటనలను అనుసరిస్తాయో నిర్ణయించండి.

ప్రకటనలు:

I. F ఏదీ కూడా K కాదు.

II. కొన్ని F లు J లు.

పర్యవసానం:

I. K ఏదీ కూడా J కాదు.

II. అన్ని F లు J లు.

III. K ఏదీ కూడా F కాదు.

Options :

1. ✖ పర్యవసానం II మాత్రమే అనుసరిస్తుంది

2. ✖ I మరియు II రెండు పర్యవసానాలు అనుసరిస్తాయి

3. ✖ ఏ పర్యవసానం కూడా అనుసరించదు

4. ✔ పర్యవసానం III మాత్రమే అనుసరిస్తుంది

Question Number : 112 Question Id : 630680366778 Is Question Mandatory : No Calculator : None Response Time : N.A Think Time : N.A Minimum Instruction Time : 0

Correct Marks : 1 Wrong Marks : 0

In the following question below are given some statements followed by some conclusions based on those statements. Taking the given statements to be true even if they seem to be at variance from commonly known facts. Read all the conclusions and then decide which of the given conclusion logically follows the given statements.

Statements:

I. No F is K.

II. Some F are J.

Conclusion:

I. No K is J.

II. All F are J.

III. No K is F.

Options :

1. ✖ Only conclusion II follows

2. ✖ Both conclusions I and II follows

3. ✖ Neither conclusion follows

4. ✔ Only conclusion III follows

Question Number : 113 Question Id : 630680366779 Is Question Mandatory : No Calculator : None Response Time : N.A Think Time : N.A Minimum Instruction Time : 0

Correct Marks : 1 Wrong Marks : 0

కింది ప్రశ్నలో కొన్ని ప్రకటనలు ఇవ్వబడ్డాయి, ఆ ప్రకటనల ఆధారంగా కొన్ని పర్యవసానాలు ఇవ్వబడ్డాయి. ఇచ్చిన ప్రకటనలు సాధారణంగా తెలిసిన వాస్తవాలకు భిన్నంగా ఉన్నట్లు అనిపించినప్పటికీ వాటిని వాస్తవంగా పరిగణించాలి. అన్ని పర్యవసానాలను చదివి, ఇచ్చిన పర్యవసానాలలో ఏది తార్కికంగా ఇవ్వబడిన ప్రకటనలను అనుసరిస్తాయో నిర్ణయించండి.

ప్రకటనలు:

I. కొన్ని T లు K లు.

II. అన్నీ K లు N లు.

పర్యవసానం:

I. N లు అన్నీ K లు.

II. అన్ని T లు K లు.

III. కొన్ని N లు T కాదు.

Options :

1. ✖ I మరియు III రెండు పర్యవసానాలు అనుసరిస్తాయి

2. ✖ II మరియు III రెండు పర్యవసానాలు అనుసరిస్తాయి

3. ✖ అన్నీ పర్యవసానాలు అనుసరిస్తాయి

4. ✔ ఏ పర్యవసానం కూడా అనుసరించదు

Question Number : 113 Question Id : 630680366779 Is Question Mandatory : No Calculator : None Response Time : N.A Think

Time : N.A Minimum Instruction Time : 0

Correct Marks : 1 Wrong Marks : 0

In the following question below are given some statements followed by some conclusions based on those statements. Taking the given statements to be true even if they seem to be at variance from commonly known facts. Read all the conclusions and then decide which of the given conclusion logically follows the given statements.

Statements:

- I. Some T are K.
- II. All K are N.

Conclusion:

- I. All N are K.
- II. All T are K.
- III. Some N are not T.

Options :

- 1. ✖ Both conclusions I and III follows
- 2. ✖ Both conclusions II and III follows
- 3. ✖ All conclusion follows
- 4. ✔ Neither conclusion follows

Question Number : 114 Question Id : 630680366780 Is Question Mandatory : No Calculator : None Response Time : N.A Think Time : N.A Minimum Instruction Time : 0

Correct Marks : 1 Wrong Marks : 0

కింది ప్రశ్నలో కొన్ని ప్రకటనలు ఇవ్వబడ్డాయి, ఆ ప్రకటనల ఆధారంగా కొన్ని పర్యవసానాలు ఇవ్వబడ్డాయి. ఇచ్చిన ప్రకటనలు సాధారణంగా తెలిసిన వాస్తవాలకు భిన్నంగా ఉన్నట్లు అనిపించినప్పటికీ వాటిని వాస్తవంగా పరిగణించాలి. అన్ని పర్యవసానాలను చదివి, ఇచ్చిన పర్యవసానాలలో ఏది తార్కికంగా ఇవ్వబడిన ప్రకటనలను అనుసరిస్తాయో నిర్ణయించండి.

ప్రకటనలు:

- I. కొన్ని ఎరుపువి నీలము.
- II. తెలుపువన్నీ నీలము.

పర్యవసానం:

- I. కొన్ని నీలమువి ఎరుపు.
- II. కొన్ని నీలమువి తెలుపు.
- III. ఏ ఎరుపువి తెలుపు కాదు.

Options :

- 1. ✖ పర్యవసానం I మాత్రమే అనుసరిస్తుంది
- 2. ✖ II మరియు III రెండు పర్యవసానాలు అనుసరిస్తాయి
- 3. ✔ I మరియు II రెండు పర్యవసానాలు అనుసరిస్తాయి
- 4. ✖ అన్ని పర్యవసానాలు అనుసరిస్తాయి

Question Number : 114 Question Id : 630680366780 Is Question Mandatory : No Calculator : None Response Time : N.A Think Time : N.A Minimum Instruction Time : 0

Correct Marks : 1 Wrong Marks : 0

In the following question below are given some statements followed by some conclusions based on those statements. Taking the given statements to be true even if they seem to be at variance from commonly known facts. Read all the conclusions and then decide which of the given conclusion logically follows the given statements.

Statements:

- I. Some red are blue.
- II. All white are blue.

Conclusion:

- I. Some blue are red.
- II. Some blue are white.
- III. No red are white.

Options :

- 1. ✖ Only conclusion I follows
- 2. ✖ Both conclusions II and III follows
- 3. ✔ Both conclusions I and II follows
- 4. ✖ All conclusion follows

Question Number : 115 Question Id : 630680366781 Is Question Mandatory : No Calculator : None Response Time : N.A Think Time : N.A Minimum Instruction Time : 0

Correct Marks : 1 Wrong Marks : 0

In the question given below, relationships between different elements are shown in the statements. These statements are followed by two conclusions. Give answer:

Statements:

$$I. M \geq S \geq B = Q > A \geq K \leq L$$

Conclusions:

$$I. B > K$$

$$II. A > S$$

Options :

1. ✓ If only conclusion I is true
2. ✗ If only conclusion II is true
3. ✗ If neither conclusion I nor conclusion II is true
4. ✗ If both conclusions I and II are true

Question Number : 115 Question Id : 630680366781 Is Question Mandatory : No Calculator : None Response Time : N.A Think Time : N.A Minimum Instruction Time : 0

Correct Marks : 1 Wrong Marks : 0

దిగువ ఇవ్వబడిన ప్రశ్నలో, వివిధ మూలకాల మధ్య గల సంబంధాలు ప్రకటనలలో చూపబడ్డాయి. ఈ ప్రకటనల తర్వాత రెండు పర్యవసానాలు ఇవ్వబడ్డాయి. సమాధానం ఇవ్వండి:

ప్రకటనలు:

$$I. M \geq S \geq B = Q > A \geq K \leq L$$

పర్యవసానాలు:

$$I. B > K$$

$$II. A > S$$

Options :

1. ✓ పర్యవసానం I మాత్రమే నిజం అయితే
2. ✗ పర్యవసానం II మాత్రమే నిజం అయితే
3. ✗ పర్యవసానం I కానీ లేదా పర్యవసానం II కానీ ఏదీ నిజం కానట్లయితే
4. ✗ I మరియు II రెండు పర్యవసానాలు నిజమైతే

Question Number : 116 Question Id : 630680366782 Is Question Mandatory : No Calculator : None Response Time : N.A Think Time : N.A Minimum Instruction Time : 0

Correct Marks : 1 Wrong Marks : 0

S1, S2, S3, S4 మరియు S5 అను ఐదు దుకాణాల్లోని పెన్నుల సంఖ్యను పోల్చడమైనది. S3లోని పెన్నుల సంఖ్య S1 కంటే ఎక్కువ. S5లోని పెన్నుల సంఖ్య S2 కంటే తక్కువ కానీ S4 కంటే ఎక్కువ. ఏ రెండు దుకాణాల్లోనూ ఒకే సంఖ్యలో పెన్నులు లేవు. దుకాణంలో పెన్నుల సరైన అవరోహణ క్రమం ఏమిటి?

Options :

1. ✗ S5 > S2 > S4 > S3 > S1
2. ✗ S4 > S5 > S2 > S3 > S1
3. ✗ S1 > S5 > S4 > S3 > S2
4. ✓ S2 > S5 > S4 > S3 > S1

Question Number : 116 Question Id : 630680366782 Is Question Mandatory : No Calculator : None Response Time : N.A Think Time : N.A Minimum Instruction Time : 0

Correct Marks : 1 Wrong Marks : 0

Number of pens in five shops S1, S2, S3, S4 and S5 are compared. Number of pens in S3 are more than only S1. Number of pens in S5 are less than S2 but more than S4. No two shops have same number of pens. What is the correct decreasing order of pens in shop?

Options :

1. ✗ S5 > S2 > S4 > S3 > S1
2. ✗ S4 > S5 > S2 > S3 > S1
3. ✗ S1 > S5 > S4 > S3 > S2

4. ✓ S2 > S5 > S4 > S3 > S1

Question Number : 117 Question Id : 630680366783 Is Question Mandatory : No Calculator : None Response Time : N.A Think Time : N.A Minimum Instruction Time : 0

Correct Marks : 1 Wrong Marks : 0

ఒక పదం తప్పిపోయిన శ్రేణి ఇవ్వబడింది. శ్రేణిని పూర్తి చేసే సరైన ప్రత్యామ్నాయాన్ని ఇవ్వబడిన ఐచ్ఛికాల నుండి ఎంచుకోండి. CD, CE, CF, CG, ?

Options :

1. ✓ CH
2. ✗ CD
3. ✗ CJ
4. ✗ MQ

Question Number : 117 Question Id : 630680366783 Is Question Mandatory : No Calculator : None Response Time : N.A Think Time : N.A Minimum Instruction Time : 0

Correct Marks : 1 Wrong Marks : 0

A series is given with one term missing. Select the correct alternative from the given ones that will complete the series. CD, CE, CF, CG, ?

Options :

1. ✓ CH
2. ✗ CD
3. ✗ CJ
4. ✗ MQ

Question Number : 118 Question Id : 630680366784 Is Question Mandatory : No Calculator : None Response Time : N.A Think Time : N.A Minimum Instruction Time : 0

Correct Marks : 1 Wrong Marks : 0

ఒక పదం తప్పిపోయిన శ్రేణి ఇవ్వబడింది. శ్రేణిని పూర్తి చేసే సరైన ప్రత్యామ్నాయాన్ని ఇవ్వబడిన ఐచ్ఛికాల నుండి ఎంచుకోండి. BMRQ, IRAB, PWJM, WBSX, ?

Options :

1. ✗ DTBI
2. ✗ DHNM
3. ✓ DGBI
4. ✗ DMRQ

Question Number : 118 Question Id : 630680366784 Is Question Mandatory : No Calculator : None Response Time : N.A Think Time : N.A Minimum Instruction Time : 0

Correct Marks : 1 Wrong Marks : 0

A series is given with one term missing. Select the correct alternative from the given ones that will complete the series. BMRQ, IRAB, PWJM, WBSX, ?

Options :

1. ✗ DTBI
2. ✗ DHNM
3. ✓ DGBI
4. ✗ DMRQ

Question Number : 119 Question Id : 630680366785 Is Question Mandatory : No Calculator : None Response Time : N.A Think Time : N.A Minimum Instruction Time : 0

Correct Marks : 1 Wrong Marks : 0

ఆంగ్ల వర్ణమాల క్రమం ప్రకారం, 'AEROCITY' అనే పదంలోని అక్షరాలు వాటి ముందు అక్షరంతో భర్తీ చేయబడతాయి. అప్పుడు కొత్తగా ఏర్పడిన పదంలో కుడివైపు నుండి 5వ అక్షరం ఏమిటి?

Options :

1. ✗ B
2. ✓ P
3. ✗ D
4. ✗ J

Question Number : 119 Question Id : 630680366785 Is Question Mandatory : No Calculator : None Response Time : N.A Think Time : N.A Minimum Instruction Time : 0

Correct Marks : 1 Wrong Marks : 0

In the word 'AEROCITY' the letters are replaced by the next letter as per the English alphabetical order. What will be the 5th alphabet in the new word from the right?

Options :

1. ✘ B
2. ✔ P
3. ✘ D
4. ✘ J

Question Number : 120 Question Id : 630680366786 Is Question Mandatory : No Calculator : None Response Time : N.A Think Time : N.A Minimum Instruction Time : 0

Correct Marks : 1 Wrong Marks : 0

0 నుండి 9 వరకు అంకెలు గల ఇవ్వబడిన వరుసను పరిగణించండి. వరుసలో ఎడమ వైపు నుండి బేసి సంఖ్యల స్థానాలలో ఎన్ని 3లు కలవు?

2 5 3 8 8 9 6 3 3 5 7 5 2 0 4 3 6 9 5 4 3 3 3 3 2 5 3 8 2 1 1 3 1 8 8 9 6 3 3

Options :

1. ✔ 6
2. ✘ 5
3. ✘ 8
4. ✘ 9

Question Number : 120 Question Id : 630680366786 Is Question Mandatory : No Calculator : None Response Time : N.A Think Time : N.A Minimum Instruction Time : 0

Correct Marks : 1 Wrong Marks : 0

Consider the string given below made up of numbers from 0 to 9. How many 3's are present at the odd numbered positions from the left of the string?

2 5 3 8 8 9 6 3 3 5 7 5 2 0 4 3 6 9 5 4 3 3 3 3 2 5 3 8 2 1 1 3 1 8 8 9 6 3 3

Options :

1. ✔ 6
2. ✘ 5
3. ✘ 8
4. ✘ 9

Question Number : 121 Question Id : 630680366787 Is Question Mandatory : No Calculator : None Response Time : N.A Think Time : N.A Minimum Instruction Time : 0

Correct Marks : 1 Wrong Marks : 0

ఒక నిర్దిష్ట కోడ్ భాషలో, 'TRUCKS'ని 'RTCUSK' అని రాస్తారు. అదే కోడ్ భాషలో 'ADVENT' కు గల కోడ్ ఏమిటి?

Options :

1. ✘ DEVATN
2. ✘ DAVENT
3. ✘ DAVETN
4. ✔ DAEVTN

Question Number : 121 Question Id : 630680366787 Is Question Mandatory : No Calculator : None Response Time : N.A Think Time : N.A Minimum Instruction Time : 0

Correct Marks : 1 Wrong Marks : 0

In a certain code language, 'TRUCKS' is written as 'RTCUSK'. What is the code for 'ADVENT' in that code language?

Options :

1. ✘ DEVATN
2. ✘ DAVENT
3. ✘ DAVETN
4. ✔ DAEVTN

Question Number : 122 Question Id : 630680366788 Is Question Mandatory : No Calculator : None Response Time : N.A Think Time : N.A Minimum Instruction Time : 0

Correct Marks : 1 Wrong Marks : 0

ఒక నిర్దిష్ట కోడ్ భాషలో, 'BACK'ని '3075'గా, 'RACK'ని '4375'గా రాస్తారు. ఆ కోడ్ భాషలో 'R'కు గల కోడ్ ఏమిటి?

Options :

1. ✘ 5

2. ✖ 7
3. ✖ 3
4. ✔ 4

Question Number : 122 Question Id : 630680366788 Is Question Mandatory : No Calculator : None Response Time : N.A Think Time : N.A Minimum Instruction Time : 0

Correct Marks : 1 Wrong Marks : 0

In a certain code language, 'BACK' is written as '3075', 'RACK' is written as '4375'. What is the code for 'R' in that code language?

Options :

1. ✖ 5
2. ✖ 7
3. ✖ 3
4. ✔ 4

Question Number : 123 Question Id : 630680366789 Is Question Mandatory : No Calculator : None Response Time : N.A Think Time : N.A Minimum Instruction Time : 0

Correct Marks : 1 Wrong Marks : 0

మొదటి అక్షర సమూహం, రెండవ అక్షరం సమూహానికి సంబంధించినది మరియు మూడవ అక్షర సమూహం, నాల్గవ అక్షర సమూహానికి సంబంధించినది. అలాంటి సంబంధాన్ని కలిగి ఉన్న ఆ తప్పిపోయిన జతను (ఐదవ అక్షర సమూహం: ఆరవ అక్షర సమూహం) ఎంచుకోండి.

GT : JW :: HU : KX :: ?

Options :

1. ✔ OU : RX
2. ✖ PS : JK
3. ✖ BZ : UH
4. ✖ XP : WJ

Question Number : 123 Question Id : 630680366789 Is Question Mandatory : No Calculator : None Response Time : N.A Think Time : N.A Minimum Instruction Time : 0

Correct Marks : 1 Wrong Marks : 0

Select that missing pair (Fifth letter cluster : Sixth letter cluster) which is related in the same way as the first letter cluster is related to the second letter cluster and third letter cluster is related to fourth letter cluster.

GT : JW :: HU : KX :: ?

Options :

1. ✔ OU : RX
2. ✖ PS : JK
3. ✖ BZ : UH
4. ✖ XP : WJ

Question Number : 124 Question Id : 630680366790 Is Question Mandatory : No Calculator : None Response Time : N.A Think Time : N.A Minimum Instruction Time : 0

Correct Marks : 1 Wrong Marks : 0

Select that missing pair (Fifth letter cluster : Sixth letter cluster) which is related in the same way as the first letter cluster is related to the second letter cluster and third letter cluster is related to fourth letter cluster.

NA : QD :: BG : EJ :: ?

Options :

1. ✖ WJ : UH
2. ✖ OB : TT
3. ✔ OB : RE
4. ✖ ZX : OM

Question Number : 124 Question Id : 630680366790 Is Question Mandatory : No Calculator : None Response Time : N.A Think Time : N.A Minimum Instruction Time : 0

Correct Marks : 1 Wrong Marks : 0

మొదటి అక్షర సమూహం, రెండవ అక్షరం సమూహానికి సంబంధించినది మరియు మూడవ అక్షర సమూహం, నాల్గవ అక్షర సమూహానికి సంబంధించినది. అలాంటి సంబంధాన్ని కలిగి ఉన్న ఆ తప్పిపోయిన జతను (ఐదవ అక్షర సమూహం: ఆరవ అక్షర సమూహం) ఎంచుకోండి.

NA : QD :: BG : EJ :: ?

Options :

1. ✖ WJ : UH

2. ✖ OB : TT
3. ✔ OB : RE
4. ✖ ZX : OM

Question Number : 125 Question Id : 630680366791 Is Question Mandatory : No Calculator : None Response Time : N.A Think Time : N.A Minimum Instruction Time : 0

Correct Marks : 1 Wrong Marks : 0

కింది ప్రశ్నలో, ఇచ్చిన ప్రత్యామ్నాయాల నుండి భిన్నంగా గల అక్షరం/అక్షరాలను ఎంచుకోండి.

Options :

1. ✖ FK
2. ✖ QV
3. ✖ BG
4. ✔ SW

Question Number : 125 Question Id : 630680366791 Is Question Mandatory : No Calculator : None Response Time : N.A Think Time : N.A Minimum Instruction Time : 0

Correct Marks : 1 Wrong Marks : 0

In the following question, select the odd letter/letters from the given alternatives.

Options :

1. ✖ FK
2. ✖ QV
3. ✖ BG
4. ✔ SW

Question Number : 126 Question Id : 630680366792 Is Question Mandatory : No Calculator : None Response Time : N.A Think Time : N.A Minimum Instruction Time : 0

Correct Marks : 1 Wrong Marks : 0

కింది ప్రశ్నలో, నాలుగు అక్షరాల జతలు ఇవ్వబడ్డాయి. (-) యొక్క ఎడమ వైపున ఉన్న అక్షరాలు (-) యొక్క కుడి వైపున ఉన్న అక్షరాలతో కొంత తర్కం/నియమం/సంబంధంతో సంబంధాన్ని కలిగి ఉంటాయి. ఒకే తర్కం/నియమం/సంబంధం ఆధారంగా మూడు ఒకేలా ఉంటాయి. ఇచ్చిన ప్రత్యామ్నాయాల నుండి భిన్నంగా ఉన్న దాన్ని ఎంచుకోండి.

Options :

1. ✖ BQ – HW
2. ✖ LT – RZ
3. ✖ UJ – AP
4. ✔ CH – IM

Question Number : 126 Question Id : 630680366792 Is Question Mandatory : No Calculator : None Response Time : N.A Think Time : N.A Minimum Instruction Time : 0

Correct Marks : 1 Wrong Marks : 0

In the following question, four letter pairs are given. The letters on left side of (-) is related to the letters on the right side of (-) with some Logic/Rule/Relation. Three are similar on basis of same Logic/Rule/Relation. Select the odd one out from the given alternatives.

Options :

1. ✖ BQ – HW
2. ✖ LT – RZ
3. ✖ UJ – AP
4. ✔ CH – IM

Question Number : 127 Question Id : 630680366793 Is Question Mandatory : No Calculator : None Response Time : N.A Think Time : N.A Minimum Instruction Time : 0

Correct Marks : 1 Wrong Marks : 0

కింది ప్రశ్నలో, ఇవ్వబడిన శ్రేణిలో రావాల్సిన సంఖ్యను ఎంచుకోండి.

3, 12, 42, 135, 417, ?

Options :

1. ✖ 1260
2. ✔ 1266
3. ✖ 1284
4. ✖ 1281

Question Number : 127 Question Id : 630680366793 Is Question Mandatory : No Calculator : None Response Time : N.A Think

Time : N.A Minimum Instruction Time : 0

Correct Marks : 1 Wrong Marks : 0

In the following question, select the missing number from the given series.

3, 12, 42, 135, 417, ?

Options :

1. ✘ 1260
2. ✔ 1266
3. ✘ 1284
4. ✘ 1281

Question Number : 128 Question Id : 630680366794 Is Question Mandatory : No Calculator : None Response Time : N.A Think Time : N.A Minimum Instruction Time : 0

Correct Marks : 1 Wrong Marks : 0

ఒకవేళ $43 J 10 K 2 = 48$ మరియు $28 J 14 K 7 = 30$ అయినట్లైతే, అప్పుడు $18 J 6 K 3 = ?$

Options :

1. ✔ 20
2. ✘ 22
3. ✘ 23
4. ✘ 24

Question Number : 128 Question Id : 630680366794 Is Question Mandatory : No Calculator : None Response Time : N.A Think Time : N.A Minimum Instruction Time : 0

Correct Marks : 1 Wrong Marks : 0

If $43 J 10 K 2 = 48$ and $28 J 14 K 7 = 30$, then $18 J 6 K 3 = ?$

Options :

1. ✔ 20
2. ✘ 22
3. ✘ 23
4. ✘ 24

Question Number : 129 Question Id : 630680366795 Is Question Mandatory : No Calculator : None Response Time : N.A Think Time : N.A Minimum Instruction Time : 0

Correct Marks : 1 Wrong Marks : 0

ఏ రెండు సంఖ్యలను (అంకెలను కాదు) పరస్పరం మార్చడం ద్వారా సమీకరణం సరైనది అవుతుంది?

$$6 \times 8 - 9 \div 3 + 5 = 75$$

Options :

1. ✘ 8 మరియు 3
2. ✔ 6 మరియు 9
3. ✘ 3 మరియు 9
4. ✘ 8 మరియు 5

Question Number : 129 Question Id : 630680366795 Is Question Mandatory : No Calculator : None Response Time : N.A Think Time : N.A Minimum Instruction Time : 0

Correct Marks : 1 Wrong Marks : 0

By interchanging which two numbers (not mathematical symbols) the equation will be correct?

$$6 \times 8 - 9 \div 3 + 5 = 75$$

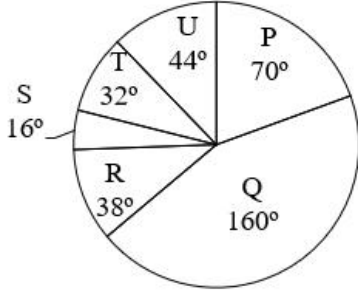
Options :

1. ✘ 8 and 3
2. ✔ 6 and 9
3. ✘ 3 and 9
4. ✘ 8 and 5

Question Number : 130 Question Id : 630680366796 Is Question Mandatory : No Calculator : None Response Time : N.A Think Time : N.A Minimum Instruction Time : 0

Correct Marks : 1 Wrong Marks : 0

The pie chart given below shows the number of trucks manufactured by five companies in a year. Total trucks manufactured by all these five companies are 1080. Number of truck manufactured by a particular company is shown in terms of degree with respect to the total number of trucks manufactured by all these five companies.



What is the difference between the number of trucks manufactured by P and R together and the number of trucks manufactured by Q and U together?

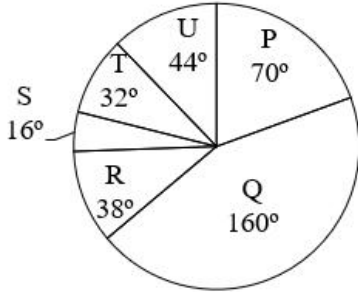
Options :

1. ✖ 201
2. ✔ 288
3. ✖ 306
4. ✖ 324

Question Number : 130 Question Id : 630680366796 Is Question Mandatory : No Calculator : None Response Time : N.A Think Time : N.A Minimum Instruction Time : 0

Correct Marks : 1 Wrong Marks : 0

క్రింద ఇవ్వబడిన పై-చార్ట్ ఒక సంవత్సరంలో ఐదు కంపెనీలు తయారు చేసిన ట్రక్కుల సంఖ్యను చూపుతుంది. ఈ ఐదు కంపెనీలు తయారు చేసిన మొత్తం ట్రక్కులు 1080. ఈ ఐదు కంపెనీలు తయారు చేసిన మొత్తం ట్రక్కుల సంఖ్యకు సంబంధించి నిర్దిష్ట కంపెనీ తయారు చేసిన ట్రక్కుల సంఖ్య డిగ్రీ పరంగా చూపబడింది.



P మరియు R లు కలిసి తయారు చేసిన ట్రక్కుల సంఖ్య మరియు Q మరియు U లు కలిసి తయారు చేసిన ట్రక్కుల సంఖ్య మధ్య గల భేదం ఎంత?

Options :

1. ✖ 201
2. ✔ 288
3. ✖ 306
4. ✖ 324

Question Number : 131 Question Id : 630680366797 Is Question Mandatory : No Calculator : None Response Time : N.A Think Time : N.A Minimum Instruction Time : 0

Correct Marks : 1 Wrong Marks : 0

Select the most appropriate option for the given blank.

I need _____ new dress for my birthday.

Options :

1. ✔ a
2. ✖ an
3. ✖ the
4. ✖ No article

Question Number : 131 Question Id : 630680366797 Is Question Mandatory : No Calculator : None Response Time : N.A Think

Time : N.A Minimum Instruction Time : 0

Correct Marks : 1 Wrong Marks : 0

Select the most appropriate option for the given blank.

I need _____ new dress for my birthday.

Options :

1. ✓ a
2. ✗ an
3. ✗ the
4. ✗ No article

Question Number : 132 Question Id : 630680366798 Is Question Mandatory : No Calculator : None Response Time : N.A Think Time : N.A Minimum Instruction Time : 0

Correct Marks : 1 Wrong Marks : 0

Select the most appropriate option for the given blank.

_____ New York City is the most expensive city in the world.

Options :

1. ✗ A
2. ✗ An
3. ✗ The
4. ✓ No article

Question Number : 132 Question Id : 630680366798 Is Question Mandatory : No Calculator : None Response Time : N.A Think Time : N.A Minimum Instruction Time : 0

Correct Marks : 1 Wrong Marks : 0

Select the most appropriate option for the given blank.

_____ New York City is the most expensive city in the world.

Options :

1. ✗ A
2. ✗ An
3. ✗ The
4. ✓ No article

Question Number : 133 Question Id : 630680366799 Is Question Mandatory : No Calculator : None Response Time : N.A Think Time : N.A Minimum Instruction Time : 0

Correct Marks : 1 Wrong Marks : 0

Select the most appropriate option for the given blank.

I am going to _____ United States next month.

Options :

1. ✗ a
2. ✗ an
3. ✓ the
4. ✗ No article

Question Number : 133 Question Id : 630680366799 Is Question Mandatory : No Calculator : None Response Time : N.A Think Time : N.A Minimum Instruction Time : 0

Correct Marks : 1 Wrong Marks : 0

Select the most appropriate option for the given blank.

I am going to _____ United States next month.

Options :

1. ✗ a
2. ✗ an
3. ✓ the
4. ✗ No article

Question Number : 134 Question Id : 630680366800 Is Question Mandatory : No Calculator : None Response Time : N.A Think Time : N.A Minimum Instruction Time : 0

Correct Marks : 1 Wrong Marks : 0

Select the most appropriate option for the given blank.

Students love to go to the computer lab because it is the _____ room in the school.

Options :

1. ❌ cool
2. ❌ cooler
3. ✔️ coolest
4. ❌ cooling

Question Number : 134 Question Id : 630680366800 Is Question Mandatory : No Calculator : None Response Time : N.A Think Time : N.A Minimum Instruction Time : 0

Correct Marks : 1 Wrong Marks : 0

Select the most appropriate option for the given blank.
Students love to go to the computer lab because it is the _____ room in the school.

Options :

1. ❌ cool
2. ❌ cooler
3. ✔️ coolest
4. ❌ cooling

Question Number : 135 Question Id : 630680366801 Is Question Mandatory : No Calculator : None Response Time : N.A Think Time : N.A Minimum Instruction Time : 0

Correct Marks : 1 Wrong Marks : 0

Select the most appropriate option for the given blank.
Julia bhatt's latest movie is quite _____.

Options :

1. ✔️ refreshing
2. ❌ interested
3. ❌ bored
4. ❌ entertainment

Question Number : 135 Question Id : 630680366801 Is Question Mandatory : No Calculator : None Response Time : N.A Think Time : N.A Minimum Instruction Time : 0

Correct Marks : 1 Wrong Marks : 0

Select the most appropriate option for the given blank.
Julia bhatt's latest movie is quite _____.

Options :

1. ✔️ refreshing
2. ❌ interested
3. ❌ bored
4. ❌ entertainment

Question Number : 136 Question Id : 630680366802 Is Question Mandatory : No Calculator : None Response Time : N.A Think Time : N.A Minimum Instruction Time : 0

Correct Marks : 1 Wrong Marks : 0

Find the part of the sentence that has a grammatical error.
He will played the piano for all the guests.

Options :

1. ❌ He will
2. ✔️ played the piano
3. ❌ for all the guests.
4. ❌ No error

Question Number : 136 Question Id : 630680366802 Is Question Mandatory : No Calculator : None Response Time : N.A Think Time : N.A Minimum Instruction Time : 0

Correct Marks : 1 Wrong Marks : 0

Find the part of the sentence that has a grammatical error.
He will played the piano for all the guests.

Options :

1. ❌ He will
2. ✔️ played the piano
3. ❌ for all the guests.
4. ❌ No error

Question Number : 137 Question Id : 630680366803 Is Question Mandatory : No Calculator : None Response Time : N.A Think Time : N.A Minimum Instruction Time : 0

Correct Marks : 1 Wrong Marks : 0

Match the following idioms in List A with their meanings in List B.

	A		B
(1)	Hit the sack	(i)	Stuck in a difficult circumstance with no escape
(2)	Back against the wall	(ii)	Go to sleep
(3)	Beat around the bush	(iii)	To avoid talking about what is important
(4)	Your guess is as good as mine	(iv)	I don't know

Options :

1. ✘ (1) – (iii); (2) – (i); (3) – (ii); (4) – (iv)
2. ✘ (1) – (ii); (2) – (iii); (3) – (i); (4) – (iv)
3. ✘ (1) – (i); (2) – (ii); (3) – (iii); (4) – (iv)
4. ✔ (1) – (ii); (2) – (i); (3) – (iii); (4) – (iv)

Question Number : 137 Question Id : 630680366803 Is Question Mandatory : No Calculator : None Response Time : N.A Think Time : N.A Minimum Instruction Time : 0

Correct Marks : 1 Wrong Marks : 0

Match the following idioms in List A with their meanings in List B.

	A		B
(1)	Hit the sack	(i)	Stuck in a difficult circumstance with no escape
(2)	Back against the wall	(ii)	Go to sleep
(3)	Beat around the bush	(iii)	To avoid talking about what is important
(4)	Your guess is as good as mine	(iv)	I don't know

Options :

1. ✘ (1) – (iii); (2) – (i); (3) – (ii); (4) – (iv)
2. ✘ (1) – (ii); (2) – (iii); (3) – (i); (4) – (iv)
3. ✘ (1) – (i); (2) – (ii); (3) – (iii); (4) – (iv)
4. ✔ (1) – (ii); (2) – (i); (3) – (iii); (4) – (iv)

Question Number : 138 Question Id : 630680366804 Is Question Mandatory : No Calculator : None Response Time : N.A Think Time : N.A Minimum Instruction Time : 0

Correct Marks : 1 Wrong Marks : 0

Which of the following pair of proverbs is correct?

- I. Absence makes the heart grow fonder/ Being away from someone for some time makes you appreciate that person more
- II. You can lead a horse to water, but you can't make him drink it/ It is better to be cautious than to have regrets later

Options :

1. ✔ Only I
2. ✘ Only II
3. ✘ Both I and II
4. ✘ Neither I nor II

Question Number : 138 Question Id : 630680366804 Is Question Mandatory : No Calculator : None Response Time : N.A Think Time : N.A Minimum Instruction Time : 0

Correct Marks : 1 Wrong Marks : 0

Which of the following pair of proverbs is correct?

- I. Absence makes the heart grow fonder/ Being away from someone for some time makes you appreciate that person more
- II. You can lead a horse to water, but you can't make him drink it/ It is better to be cautious than to have regrets later

Options :

1. ✓ Only I
2. ✗ Only II
3. ✗ Both I and II
4. ✗ Neither I nor II

Question Number : 139 Question Id : 630680366805 Is Question Mandatory : No Calculator : None Response Time : N.A Think Time : N.A Minimum Instruction Time : 0

Correct Marks : 1 Wrong Marks : 0

Which of the following pair follow the word – antonym relation?

- I. Monotonous – Intriguing
- II. Spurious – Genuine
- III. Servitude – Bondage
- IV. Deplorable – Disgusting

Options :

1. ✗ Only I
2. ✓ Both I and II
3. ✗ I, II, III and IV
4. ✗ Only II

Question Number : 139 Question Id : 630680366805 Is Question Mandatory : No Calculator : None Response Time : N.A Think Time : N.A Minimum Instruction Time : 0

Correct Marks : 1 Wrong Marks : 0

Which of the following pair follow the word – antonym relation?

- I. Monotonous – Intriguing
- II. Spurious – Genuine
- III. Servitude – Bondage
- IV. Deplorable – Disgusting

Options :

1. ✗ Only I
2. ✓ Both I and II
3. ✗ I, II, III and IV
4. ✗ Only II

Question Number : 140 Question Id : 630680366806 Is Question Mandatory : No Calculator : None Response Time : N.A Think Time : N.A Minimum Instruction Time : 0

Correct Marks : 1 Wrong Marks : 0

Which of the following pair follow the word – synonym relation?

- I. Corpulent – Round
- II. Starving – Hungry
- III. Short – Upswept
- IV. Creepy – Usual

Options :

1. ✗ Only I
2. ✓ Both I and II
3. ✗ I, II, III and IV
4. ✗ Only II

Question Number : 140 Question Id : 630680366806 Is Question Mandatory : No Calculator : None Response Time : N.A Think Time : N.A Minimum Instruction Time : 0

Correct Marks : 1 Wrong Marks : 0

Which of the following pair follow the word – synonym relation?

- I. Corpulent – Round
- II. Starving – Hungry
- III. Short – Upswept
- IV. Creepy – Usual

Options :

1. ✗ Only I
2. ✓ Both I and II
3. ✗ I, II, III and IV
4. ✗ Only II

Question Number : 141 Question Id : 630680366807 Is Question Mandatory : No Calculator : None Response Time : N.A Think Time : N.A Minimum Instruction Time : 0

Correct Marks : 1 Wrong Marks : 0

Match the following words in List A with their antonyms in List B.

	A		B
(1)	Superior	(i)	Dip
(2)	Expel	(ii)	Modest
(3)	Ascend	(iii)	Accept
(4)	Ally	(iv)	Foe

Options :

1. ✘ (1) – (iii); (2) – (i); (3) – (ii); (4) – (iv)
2. ✔ (1) – (ii); (2) – (iii); (3) – (i); (4) – (iv)
3. ✘ (1) – (i); (2) – (ii); (3) – (iii); (4) – (iv)
4. ✘ (1) – (ii); (2) – (i); (3) – (iii); (4) – (iv)

Question Number : 141 Question Id : 630680366807 Is Question Mandatory : No Calculator : None Response Time : N.A Think Time : N.A Minimum Instruction Time : 0

Correct Marks : 1 Wrong Marks : 0

Match the following words in List A with their antonyms in List B.

	A		B
(1)	Superior	(i)	Dip
(2)	Expel	(ii)	Modest
(3)	Ascend	(iii)	Accept
(4)	Ally	(iv)	Foe

Options :

1. ✘ (1) – (iii); (2) – (i); (3) – (ii); (4) – (iv)
2. ✔ (1) – (ii); (2) – (iii); (3) – (i); (4) – (iv)
3. ✘ (1) – (i); (2) – (ii); (3) – (iii); (4) – (iv)
4. ✘ (1) – (ii); (2) – (i); (3) – (iii); (4) – (iv)

Question Number : 142 Question Id : 630680366808 Is Question Mandatory : No Calculator : None Response Time : N.A Think Time : N.A Minimum Instruction Time : 0

Correct Marks : 1 Wrong Marks : 0

Match the following words in List A with their antonyms in List B.

	A		B
(1)	Lethargy	(i)	Vitality
(2)	Antagonist	(ii)	Pal
(3)	Despair	(iii)	Mirth
(4)	Ironic	(iv)	Mild

Options :

1. ✘ (1) – (iii); (2) – (i); (3) – (ii); (4) – (iv)
2. ✘ (1) – (ii); (2) – (iii); (3) – (i); (4) – (iv)
3. ✔ (1) – (i); (2) – (ii); (3) – (iii); (4) – (iv)
4. ✘ (1) – (ii); (2) – (i); (3) – (iii); (4) – (iv)

Question Number : 142 Question Id : 630680366808 Is Question Mandatory : No Calculator : None Response Time : N.A Think

Time : N.A Minimum Instruction Time : 0

Correct Marks : 1 Wrong Marks : 0

Match the following words in List A with their antonyms in List B.

	A		B
(1)	Lethargy	(i)	Vitality
(2)	Antagonist	(ii)	Pal
(3)	Despair	(iii)	Mirth
(4)	Ironic	(iv)	Mild

Options :

1. ✘ (1) – (iii); (2) – (i); (3) – (ii); (4) – (iv)
2. ✘ (1) – (ii); (2) – (iii); (3) – (i); (4) – (iv)
3. ✔ (1) – (i); (2) – (ii); (3) – (iii); (4) – (iv)
4. ✘ (1) – (ii); (2) – (i); (3) – (iii); (4) – (iv)

Question Number : 143 Question Id : 630680366809 Is Question Mandatory : No Calculator : None Response Time : N.A Think Time : N.A Minimum Instruction Time : 0

Correct Marks : 1 Wrong Marks : 0

Which of the following sentences is spelled CORRECTLY?

- I. Sometimes when the going gets though, we forget all the beautiful things that occur in our lives.
- II. We are so caught up in the moment that we fail to appreciate what's in front of us.

Options :

1. ✘ Only I
2. ✔ Only II
3. ✘ Both I and II
4. ✘ Neither I nor II

Question Number : 143 Question Id : 630680366809 Is Question Mandatory : No Calculator : None Response Time : N.A Think Time : N.A Minimum Instruction Time : 0

Correct Marks : 1 Wrong Marks : 0

Which of the following sentences is spelled CORRECTLY?

- I. Sometimes when the going gets though, we forget all the beautiful things that occur in our lives.
- II. We are so caught up in the moment that we fail to appreciate what's in front of us.

Options :

1. ✘ Only I
2. ✔ Only II
3. ✘ Both I and II
4. ✘ Neither I nor II

Question Number : 144 Question Id : 630680366810 Is Question Mandatory : No Calculator : None Response Time : N.A Think Time : N.A Minimum Instruction Time : 0

Correct Marks : 1 Wrong Marks : 0

Which of the following sentences does not contain any spelling error?

- I. While the lady of the home is slowly growing queiter, we can look at the home.
- II. She had put aside as much as she could for months, with this result.

Options :

1. ✘ Only I
2. ✔ Only II
3. ✘ Both I and II
4. ✘ Neither I nor II

Question Number : 144 Question Id : 630680366810 Is Question Mandatory : No Calculator : None Response Time : N.A Think Time : N.A Minimum Instruction Time : 0

Correct Marks : 1 Wrong Marks : 0

Which of the following sentences does not contain any spelling error?

- I. While the lady of the home is slowly growing queiter, we can look at the home.
- II. She had put aside as much as she could for months, with this result.

Options :

1. ✖ Only I
2. ✔ Only II
3. ✖ Both I and II
4. ✖ Neither I nor II

Question Number : 145 Question Id : 630680366811 Is Question Mandatory : No Calculator : None Response Time : N.A Think Time : N.A Minimum Instruction Time : 0

Correct Marks : 1 Wrong Marks : 0

Match the options in List B to their one word substitute in List A.

	A		B
(1)	Abdication	(i)	an act of renouncing
(2)	Chronology	(ii)	the sequential order in which past events occur
(3)	Exonerate	(iii)	to relieve as from an obligation
(4)	Gregarious	(iv)	fond of the company of others

Options :

1. ✖ (1) – (iii); (2) – (iv); (3) – (ii); (4) – (i)
2. ✖ (1) – (i); (2) – (iv); (3) – (ii); (4) – (iii)
3. ✔ (1) – (i); (2) – (ii); (3) – (iii); (4) – (iv)
4. ✖ (1) – (i); (2) – (iv); (3) – (iii); (4) – (ii)

Question Number : 145 Question Id : 630680366811 Is Question Mandatory : No Calculator : None Response Time : N.A Think Time : N.A Minimum Instruction Time : 0

Correct Marks : 1 Wrong Marks : 0

Match the options in List B to their one word substitute in List A.

	A		B
(1)	Abdication	(i)	an act of renouncing
(2)	Chronology	(ii)	the sequential order in which past events occur
(3)	Exonerate	(iii)	to relieve as from an obligation
(4)	Gregarious	(iv)	fond of the company of others

Options :

1. ✖ (1) – (iii); (2) – (iv); (3) – (ii); (4) – (i)
2. ✖ (1) – (i); (2) – (iv); (3) – (ii); (4) – (iii)
3. ✔ (1) – (i); (2) – (ii); (3) – (iii); (4) – (iv)
4. ✖ (1) – (i); (2) – (iv); (3) – (iii); (4) – (ii)

Question Number : 146 Question Id : 630680366812 Is Question Mandatory : No Calculator : None Response Time : N.A Think Time : N.A Minimum Instruction Time : 0

Correct Marks : 1 Wrong Marks : 0

Match the options in List B to their one word substitute in List A.

	A		B
(1)	Extempore	(i)	the science of plants
(2)	Botany	(ii)	the science of heredity
(3)	Genetics	(iii)	on the spur of the moment
(4)	Graphology	(iv)	the study of handwriting

Options :

1. ✓ (1) – (iii); (2) – (i); (3) – (ii); (4) – (iv)
2. ✗ (1) – (ii); (2) – (iii); (3) – (iv); (4) – (i)
3. ✗ (1) – (i); (2) – (iv); (3) – (iii); (4) – (ii)
4. ✗ (1) – (ii); (2) – (i); (3) – (iv); (4) – (iii)

Question Number : 146 Question Id : 630680366812 Is Question Mandatory : No Calculator : None Response Time : N.A Think Time : N.A Minimum Instruction Time : 0

Correct Marks : 1 Wrong Marks : 0

Match the options in List B to their one word substitute in List A.

	A		B
(1)	Extempore	(i)	the science of plants
(2)	Botany	(ii)	the science of heredity
(3)	Genetics	(iii)	on the spur of the moment
(4)	Graphology	(iv)	the study of handwriting

Options :

1. ✓ (1) – (iii); (2) – (i); (3) – (ii); (4) – (iv)
2. ✗ (1) – (ii); (2) – (iii); (3) – (iv); (4) – (i)
3. ✗ (1) – (i); (2) – (iv); (3) – (iii); (4) – (ii)
4. ✗ (1) – (ii); (2) – (i); (3) – (iv); (4) – (iii)

Is Section Default? :

null

Question Id : 630680366813 Sub Question Shuffling Allowed : Yes Group Comprehension Questions : No Question Pattern Type : NonMatrix Calculator : None Response Time : N.A Think Time : N.A Minimum Instruction Time : 0

Question Numbers : (147 to 150)

Read the following information carefully and answer the given questions.

More than 99% of all organisms that have ever lived on Earth are now extinct. Most of these just died out quietly. However, in Earth's history, there have been five major mass extinction events – known as the big five – during which many species became extinct at the same time.

Each of the big five events caused at least a 40% loss of all species on Earth. Yet humans hold a particular grudge against the most recent one, which brought a sudden end to the 160-million-year history of the dinosaurs. This was the Cretaceous-Paleogene extinction and it happened 66 million years ago, wiping out about 75% of all species on Earth at the time. Except for sea turtles and crocodiles, no four-legged animals bigger than 25 kg survived.

After decades of heated debate, last week, an international team of scientists with data from four independent laboratories published a study claiming to have ended the debate. They say the 12 km-wide asteroid was the one to blame.

The study looked at rock samples collected in the crater, which is now underwater. They found a layer of terrestrial mud mixed with “space dust” containing the element iridium, which can be found in high concentrations in meteorites but is rare in the Earth's crust. This layer was four times thicker in the impact crater than in the surrounding area.

The team found a 5 cm layer of sediment immediately below the limestone from the earliest Paleogene, the geologic period that began immediately after the extinction. This thin layer of sediment had iridium concentrations of one part per billion, compared to the 0.04 parts per billion in the Earth's crust.

The asteroid is thought to have hit the planet at about 20 km per second, more than 50 times faster than the speed of sound in the air. Not only did it destroy the immediate surroundings, but it also sent a cloud of vaporised rock and microscopic dust with high levels of iridium that travelled across the Earth. The global blanket of cloud blocked out sunlight, cooled Earth's surface for decades by up to 10°C and triggered a global “impact winter”. The cold and dark regime was followed by large-scale photosynthesis shutdown, disrupted food webs

worldwide and the collapse of ecosystems.

Spikes of iridium in dust from this time have been found in over 100 places around the world from America, Asia, Europe, Oceania, all the way to Antarctica. These were first identified in findings from the 1980s.

The early studies did not win a global consensus because the evidence couldn't link the high iridium concentrations to the Chicxulub crater. But this new study provides this crucial link and places an important time constraint too. The dust must have deposited within just a few decades – less than 20 years – after the impact.

Sub questions

Question Number : 147 Question Id : 630680366814 Is Question Mandatory : No Calculator : None Response Time : N.A Think Time : N.A Minimum Instruction Time : 0

Correct Marks : 1 Wrong Marks : 0

According to the given passage, which of the following statements is incorrect?

Options :

1. ✘ Cretaceous-Paleogene extinction happened 66 million years ago.
2. ✔ No four-legged animals bigger than 25 kg survived in the most recent mass extinction events.
3. ✘ Element iridium can be found in high concentrations in meteorites but is rare in the Earth's crust.
4. ✘ The asteroid not only destroyed the immediate surroundings, but it also sent a cloud of vaporised rock.

Question Number : 148 Question Id : 630680366815 Is Question Mandatory : No Calculator : None Response Time : N.A Think Time : N.A Minimum Instruction Time : 0

Correct Marks : 1 Wrong Marks : 0

What was the width of the asteroid that caused major mass extinction on the earth?

Options :

1. ✘ 25 cm
2. ✘ 12 cm
3. ✘ 25 km
4. ✔ 12 km

Question Number : 149 Question Id : 630680366816 Is Question Mandatory : No Calculator : None Response Time : N.A Think Time : N.A Minimum Instruction Time : 0

Correct Marks : 1 Wrong Marks : 0

What is the antonym of the word- 'triggered' as used in the passage?

Options :

1. ✘ Aroused
2. ✘ Drove
3. ✔ Stalled
4. ✘ Fathomed

Question Number : 150 Question Id : 630680366817 Is Question Mandatory : No Calculator : None Response Time : N.A Think Time : N.A Minimum Instruction Time : 0

Correct Marks : 1 Wrong Marks : 0

The given passage mainly states that:

Options :

1. ✔ Scientists have found dust from the asteroid that wiped out the dinosaurs inside the crater it left.
2. ✘ The record of microscopic organisms points towards a long-term shift.
3. ✘ Dinosaurs might have their doomsday set in an unfortunate asteroid volcano combination.
4. ✘ The earlier studies regarding other mass extinctions didn't win a global consensus.

Question Id : 630680366813 Sub Question Shuffling Allowed : Yes Group Comprehension Questions : No Question Pattern Type : NonMatrix Calculator : None Response Time : N.A Think Time : N.A Minimum Instruction Time : 0

Question Numbers : (147 to 150)

Read the following information carefully and answer the given questions.

More than 99% of all organisms that have ever lived on Earth are now extinct. Most of these just died out quietly. However, in Earth's history, there have been five major mass extinction events – known as the big five – during which many species became extinct at the same time.

Each of the big five events caused at least a 40% loss of all species on Earth. Yet humans hold a particular grudge against the most recent one, which brought a sudden end to the 160-million-year history of the dinosaurs. This was the Cretaceous-Paleogene extinction and it happened 66 million years ago, wiping out about 75% of all species on Earth at the time. Except for sea turtles and crocodiles, no four-legged animals bigger than 25 kg survived.

After decades of heated debate, last week, an international team of scientists with data from four independent laboratories published a study claiming to have ended the debate. They say the 12 km-wide asteroid was the one to blame.

The study looked at rock samples collected in the crater, which is now underwater. They found a layer of terrestrial mud mixed with "space dust" containing the element iridium, which can be found in high concentrations in meteorites but is rare in the Earth's crust. This layer was four times thicker in the impact crater than in the surrounding area.

The team found a 5 cm layer of sediment immediately below the limestone from the earliest Paleogene, the geologic period that began immediately after the extinction. This thin layer of sediment had iridium concentrations of one part per billion, compared to the 0.04 parts per billion in the Earth's crust.

The asteroid is thought to have hit the planet at about 20 km per second, more than 50 times faster than the speed of sound in the air. Not only did it destroy the immediate surroundings, but it also sent a cloud of vaporised rock and microscopic dust with high levels of iridium that travelled across the Earth. The global blanket of cloud blocked out sunlight, cooled Earth's surface for decades by up to 10°C and triggered a global "impact winter". The cold and dark regime was followed by large-scale photosynthesis shutdown, disrupted food webs worldwide and the collapse of ecosystems.

Spikes of iridium in dust from this time have been found in over 100 places around the world from America, Asia, Europe, Oceania, all the way to Antarctica. These were first identified in findings from the 1980s.

The early studies did not win a global consensus because the evidence couldn't link the high iridium concentrations to the Chicxulub crater. But this new study provides this crucial link and places an important time constraint too. The dust must have deposited within just a few decades – less than 20 years – after the impact.

Sub questions

Question Number : 147 Question Id : 630680366814 Is Question Mandatory : No Calculator : None Response Time : N.A Think Time : N.A Minimum Instruction Time : 0

Correct Marks : 1 Wrong Marks : 0

According to the given passage, which of the following statements is incorrect?

Options :

1. ✖ Cretaceous-Paleogene extinction happened 66 million years ago.
2. ✔ No four-legged animals bigger than 25 kg survived in the most recent mass extinction events.
3. ✖ Element iridium can be found in high concentrations in meteorites but is rare in the Earth's crust.
4. ✖ The asteroid not only destroyed the immediate surroundings, but it also sent a cloud of vaporised rock.

Question Number : 148 Question Id : 630680366815 Is Question Mandatory : No Calculator : None Response Time : N.A Think Time : N.A Minimum Instruction Time : 0

Correct Marks : 1 Wrong Marks : 0

What was the width of the asteroid that caused major mass extinction on the earth?

Options :

1. ✖ 25 cm
2. ✖ 12 cm
3. ✖ 25 km
4. ✔ 12 km

Question Number : 149 Question Id : 630680366816 Is Question Mandatory : No Calculator : None Response Time : N.A Think Time : N.A Minimum Instruction Time : 0

Correct Marks : 1 Wrong Marks : 0

What is the antonym of the word- 'triggered' as used in the passage?

Options :

1. ✖ Aroused
2. ✖ Drove
3. ✔ Stalled
4. ✖ Fathomed

Question Number : 150 Question Id : 630680366817 Is Question Mandatory : No Calculator : None Response Time : N.A Think Time : N.A Minimum Instruction Time : 0

Correct Marks : 1 Wrong Marks : 0

The given passage mainly states that:

Options :

1. ✔ Scientists have found dust from the asteroid that wiped out the dinosaurs inside the crater it left.
2. ✖ The record of microscopic organisms points towards a long-term shift.
3. ✖ Dinosaurs might have their doomsday set in an unfortunate asteroid volcano combination.
4. ✖ The earlier studies regarding other mass extinctions didn't win a global consensus.