

Print

TCSiON CAE

Notations :

- Options shown in green color and with ✓ icon are correct.
- Options shown in red color and with ✗ icon are incorrect.

Question Paper Name :

PC22311 GENERAL STUDIES AND GENERAL ABILITIES AMVI2231

Subject Name :

PC22311 GENERAL STUDIES AND GENERAL ABILITIES AMVI2231

Actual Answer Key :

Yes

Calculator :

None

Magnifying Glass Required? :

No

Ruler Required? :

No

Eraser Required? :

No

Scratch Pad Required? :

No

Rough Sketch/Notepad Required? :

No

Protractor Required? :

No

Show Watermark on Console? :

Yes

Highlighter :

No

Auto Save on Console?

Yes

Change Font Color :

No

Change Background Color :

No

Change Theme :

No

Help Button :

No

Show Reports :

No

Show Progress Bar :

No

Is this Group for Examiner? :

No

Examiner permission :

Cant View

Show Progress Bar? :

No

GENERAL STUDIES AND GENERAL ABILITIES

Section type :

Online

Enable Mark as Answered Mark for Review and Clear Response :

Yes

Maximum Instruction Time :

0

Is Section Default? :

null

Question Number : 1 Question Id : 630680254707 Is Question Mandatory : No Calculator : None Response Time : N.A Think Time : N.A Minimum Instruction Time : 0

Correct Marks : 1

Who won the Nobel Peace Prize for their work on literature in 2022?

Options :

✗ Greta Thunberg

✓ Annie Ernaux

✗ Malala Yousafzai

✗ Al Gore

Question Number : 1 Question Id : 630680254707 Is Question Mandatory : No Calculator : None Response Time : N.A Think Time : N.A Minimum Instruction Time : 0

Correct Marks : 1

2022 లో సాహిత్యంపై చేసిన కృషికి నోబెల్ శాంతి బహుమతిని గెలుచుకున్నవారు ఎవరు?

Options :

✗ గ్రేటా థన్ బెర్గ్

✓ అన్నీ ఎర్నాక్స్

✗ మలాలా యూసఫ్ జాయ్

✖ అల్ గోరె

Question Number : 2 Question Id : 630680254708 Is Question Mandatory : No Calculator : None Response Time : N.A Think Time : N.A Minimum Instruction Time : 0

Correct Marks : 1

Which international organization recently recommended that the world should cut methane emissions by 45% by 2030?

Options :

✔ United Nations

✖ World Health Organization

✖ International Monetary Fund

✖ World Meteorological Organization

Question Number : 2 Question Id : 630680254708 Is Question Mandatory : No Calculator : None Response Time : N.A Think Time : N.A Minimum Instruction Time : 0

Correct Marks : 1

2030 నాటికి ప్రపంచం మీథేన్ ఉద్ఘాటాలను 45% తగ్గించాలని ఇటీవల సిఫార్సు చేసిన అంతర్జాతీయ సంస్థ ఏది?

Options :

✔ ఐక్యరాజ్యసమితి

✖ ప్రపంచ ఆరోగ్య సంస్థ

✖ అంతర్జాతీయ ద్రవ్య నిధి

✖ ప్రపంచ వాతావరణ సంస్థ

Question Number : 3 Question Id : 630680254709 Is Question Mandatory : No Calculator : None Response Time : N.A Think Time : N.A Minimum Instruction Time : 0

Correct Marks : 1

In which year did the United Nations adopt the Global Compact for Safe, Orderly and Regular Migration, which aims to better manage international migration?

Options :

✖ 2020

✖ 2023

✔ 2018

✖ 2014

Question Number : 3 Question Id : 630680254709 Is Question Mandatory : No Calculator : None Response Time : N.A Think Time : N.A Minimum Instruction Time : 0

Correct Marks : 1

అంతర్జాతీయ వలసలను మెరుగ్గా నిర్వహించేందుకు ఉద్దేశించిన గ్లోబల్ కాంపాక్ట్ ఫర్ సేఫ్, ఆర్డర్లీ మరియు రెగ్యులర్ మైగ్రేషన్ ను ఐక్యరాజ్యసమితి ఆమోదించిన సంవత్సరం ఏది?

Options :

✖ 2020

✖ 2023

✔ 2018

✖ 2014

Question Number : 4 Question Id : 630680254710 Is Question Mandatory : No Calculator : None Response Time : N.A Think Time : N.A Minimum Instruction Time : 0

Correct Marks : 1

In 2020, which country withdrew from the Open Skies Treaty, which allows unarmed surveillance flights over the territories of its signatories?

Options :

✖ Russia

✖ China

✔ United States

✖ France

Question Number : 4 Question Id : 630680254710 Is Question Mandatory : No Calculator : None Response Time : N.A Think Time : N.A Minimum Instruction Time : 0

Correct Marks : 1

2020లో, ఏ దేశం తాము సంతకం చేసిన, తమ భూభాగాలపై నిరాయుధ నిఘా విమానాలను అనుమతించే బహిరంగ ఆకాశ ఒప్పందం (ఓపెన్ స్కైస్ ట్రీటీ) నుండి వైదొలిగింది?

Options :

- * రష్యా
- * చైనా
- ✓ సంయుక్త రాష్ట్రాలు
- * ఫ్రాన్స్

Question Number : 5 Question Id : 630680254711 Is Question Mandatory : No Calculator : None Response Time : N.A Think Time : N.A Minimum Instruction Time : 0

Correct Marks : 1

In which year did Kamala Harris become the first woman, first Black person, and first person of South Asian descent to become Vice President of the United States?

Options :

- * 2020
- ✓ 2021
- * 2022
- * 2023

Question Number : 5 Question Id : 630680254711 Is Question Mandatory : No Calculator : None Response Time : N.A Think Time : N.A Minimum Instruction Time : 0

Correct Marks : 1

కమలా హార్రిస్ సంయుక్త రాష్ట్రాల ఉపాధ్యక్షురాలు అయిన మొట్ట మొదటి మహిళ, మొదటి నల్లజాతి వ్యక్తి మరియు దక్షిణాసియా సంతతికి చెందిన మొదటి వ్యక్తిగా ఏ సంవత్సరంలో అయ్యారు?

Options :

- * 2020
- ✓ 2021
- * 2022
- * 2023

Question Number : 6 Question Id : 630680254712 Is Question Mandatory : No Calculator : None Response Time : N.A Think Time : N.A Minimum Instruction Time : 0

Correct Marks : 1

Which Indian cricketer became the first Indian to score a century in all three formats of international cricket, in 2023?

Options :

- * Virat Kohli
- ✓ Rohit Sharma
- * Mahendra Singh Dhoni
- * Shikhar Dhawan

Question Number : 6 Question Id : 630680254712 Is Question Mandatory : No Calculator : None Response Time : N.A Think Time : N.A Minimum Instruction Time : 0

Correct Marks : 1

2023 లో అంతర్జాతీయ క్రికెట్లోని మూడు ఫార్మాట్లలో శతకాన్ని సాధించిన మొట్ట మొదటి భారతీయ క్రికెటర్ ఎవరు?

Options :

- * విరాట్ కోహ్లా
- ✓ రోహిత్ శర్మ
- * మహేంద్ర సింగ్ ధోని
- * శిఖర్ ధావన్

Question Number : 7 Question Id : 630680254713 Is Question Mandatory : No Calculator : None Response Time : N.A Think Time : N.A Minimum Instruction Time : 0

Correct Marks : 1

In which year did the Indian Council of Agricultural Research (ICAR) develop a new high-yielding variety of soybean called MACS 1407?

Options :

- ✓ 2021
- * 2023
- * 2019
- * 2015

Question Number : 7 Question Id : 630680254713 Is Question Mandatory : No Calculator : None Response Time : N.A Think Time : N.A Minimum Instruction Time : 0

Correct Marks : 1

ఇండియన్ కౌన్సిల్ ఆఫ్ అగ్రికల్చరల్ రీసెర్చ్ (ICAR), MACS 1407 అనే కొత్త అధిక దిగుబడినిచ్చే సోయాబీన్‌ను అభివృద్ధి చేసిన సంవత్సరం ఏది?

Options :

- ✓ 2021
- ✗ 2023
- ✗ 2019
- ✗ 2015

Question Number : 8 Question Id : 630680254714 Is Question Mandatory : No Calculator : None Response Time : N.A Think Time : N.A Minimum Instruction Time : 0

Correct Marks : 1

Which app did the Indian government launch to help track and contain the spread of COVID-19?

Options :

- ✓ Aarogya Setu App
- ✗ Aaykar Setu App
- ✗ BHIM UPI App
- ✗ mAadhaar App

Question Number : 8 Question Id : 630680254714 Is Question Mandatory : No Calculator : None Response Time : N.A Think Time : N.A Minimum Instruction Time : 0

Correct Marks : 1

కోవిడ్-19 వ్యాప్తిని క్రాక్ చేయడంలో మరియు నియంత్రించడంలో సహాయం చేయడానికి భారత ప్రభుత్వం ప్రారంభించిన యాప్ ఏది?

Options :

- ✓ ఆరోగ్య సేతు యాప్
- ✗ ఆయకర్ సేతు యాప్
- ✗ BHIM UPI యాప్
- ✗ mAadhaar యాప్

Question Number : 9 Question Id : 630680254715 Is Question Mandatory : No Calculator : None Response Time : N.A Think Time : N.A Minimum Instruction Time : 0

Correct Marks : 1

In which year did the Indian government launch the Swachh Bharat Abhiyan (Clean India Mission)?

Options :

- ✗ 2015
- ✗ 2012
- ✗ 2016
- ✓ 2014

Question Number : 9 Question Id : 630680254715 Is Question Mandatory : No Calculator : None Response Time : N.A Think Time : N.A Minimum Instruction Time : 0

Correct Marks : 1

భారత ప్రభుత్వం స్వచ్ఛ భారత్ అభియాన్ (క్లీన్ ఇండియా మిషన్)ను ప్రారంభించిన సంవత్సరం ఏది?

Options :

- ✗ 2015
- ✗ 2012
- ✗ 2016
- ✓ 2014

Question Number : 10 Question Id : 630680254716 Is Question Mandatory : No Calculator : None Response Time : N.A Think Time : N.A Minimum Instruction Time : 0

Correct Marks : 1

Name the low-cost COVID-19 testing kit launched by Indian Institute of Technology (IIT) Delhi in 2020.

Options :

- ✗ Covishield
- ✗ Coronil
- ✓ Corosure

✘ Covaxin

Question Number : 10 Question Id : 630680254716 Is Question Mandatory : No Calculator : None Response Time : N.A Think Time : N.A Minimum Instruction Time : 0

Correct Marks : 1

ఇండియన్ ఇన్స్టిట్యూట్ ఆఫ్ టెక్నాలజీ (IIT) ఢిల్లీ 2020 లో ప్రారంభించిన తక్కువ-ధర కోవిడ్-19 టెస్టింగ్ కిట్ పేరును తెలపండి.

Options :

✘ కోవిషీల్డ్

✘ కోరోనిల్

✓ కోరోప్యాస్

✘ కోవార్జీన్

Question Number : 11 Question Id : 630680254717 Is Question Mandatory : No Calculator : None Response Time : N.A Think Time : N.A Minimum Instruction Time : 0

Correct Marks : 1

Name the scheme launched by the Indian government launch to promote literacy and education in adults, in 2020?

Options :

✘ Rashtriya Madhyamik Shiksha Abhiyan

✘ Right to Education Act

✓ Padhna Likhna Abhiyan

✘ Sarva Shiksha Abhiyan

Question Number : 11 Question Id : 630680254717 Is Question Mandatory : No Calculator : None Response Time : N.A Think Time : N.A Minimum Instruction Time : 0

Correct Marks : 1

2020 లో వయోజనులలో అక్షరాస్యత మరియు విద్యను ప్రోత్సహించడానికి భారత ప్రభుత్వం ప్రారంభించిన పథకం పేరు?

Options :

✘ రాష్ట్రీయ మాధ్యమిక శిక్షా అభియాన్

✘ విద్యా హక్కు చట్టం

✓ పఠ్నా లిఖ్నా అభియాన్

✘ సర్వశిక్షా అభియాన్

Question Number : 12 Question Id : 630680254718 Is Question Mandatory : No Calculator : None Response Time : N.A Think Time : N.A Minimum Instruction Time : 0

Correct Marks : 1

The National Commission for Protection of Child Rights (NCPCR) was established as a statutory body under which Act?

Options :

✘ The Juvenile Justice (Care and Protection) Act

✓ Commissions for Protection of Child Rights (CPCR) Act

✘ The Child Labour (Prohibition and Regulation) Act

✘ The Protection of Children from Sexual Offences Act

Question Number : 12 Question Id : 630680254718 Is Question Mandatory : No Calculator : None Response Time : N.A Think Time : N.A Minimum Instruction Time : 0

Correct Marks : 1

నేషనల్ కమీషన్ ఫర్ ప్రొటెక్షన్ ఆఫ్ చైల్డ్ రైట్స్ (NCPCR) అనేది చట్టబద్ధమైన సంస్థగా ఏ చట్టం ప్రకారం స్థాపించబడింది?

Options :

✘ జువెనైల్ జస్టిస్ (కేర్ అండ్ ప్రొటెక్షన్) చట్టం

✓ బాల హక్కుల సంరక్షణ కమీషన్ (CPCR) చట్టం

✘ బాల కార్మిక (నిషేధం మరియు నియంత్రణ) చట్టం

✘ లైంగిక నేరాల నుండి బాలల రక్షణ చట్టం

Question Number : 13 Question Id : 630680254719 Is Question Mandatory : No Calculator : None Response Time : N.A Think Time : N.A Minimum Instruction Time : 0

Correct Marks : 1

Name the scheme launched in India to improve nutritional outcomes for children, pregnant women, and lactating mothers in the year 2018.

Options :

✘ Aapki Beti Hamari Beti

- ✘ Pradhan Mantri Matru Vandhana Yojna
- ✘ Kanya Kosh
- ✔ Poshan Abhiyaan

Question Number : 13 Question Id : 630680254719 Is Question Mandatory : No Calculator : None Response Time : N.A Think Time : N.A Minimum Instruction Time : 0

Correct Marks : 1

2018 సంవత్సరంలో పిల్లలు, గర్భిణీ స్త్రీలు మరియు పాలిచ్చే తల్లులకు పోషకాహారాన్ని మెరుగుపరచడానికి భారతదేశంలో ప్రారంభించిన పథకం పేరును తెలపండి.

Options :

- ✘ ఆప్టీ బేటీ హమారీ బేటీ
- ✘ ప్రధాన మంత్రి మాతృ వందన యోజన
- ✘ కన్యా కోష్
- ✔ పోషణ్ అభియాన్

Question Number : 14 Question Id : 630680254720 Is Question Mandatory : No Calculator : None Response Time : N.A Think Time : N.A Minimum Instruction Time : 0

Correct Marks : 1

Which state did the National Green Tribunal (NGT) impose a fine of Rs. 100 crore industrial pollution in April 2023?

Options :

- ✔ Rajasthan
- ✘ Gujarat
- ✘ Assam
- ✘ Goa

Question Number : 14 Question Id : 630680254720 Is Question Mandatory : No Calculator : None Response Time : N.A Think Time : N.A Minimum Instruction Time : 0

Correct Marks : 1

నేషనల్ గ్రీన్ ట్రిబ్యూనల్ (NGT) ఏప్రిల్ 2023లో పారిశ్రామిక కాలుష్యానికి గాను రూ. 100 కోట్ల జరిమానాను ఏ రాష్ట్రానికి విధించింది?

Options :

- ✔ రాజస్థాన్
- ✘ గుజరాత్
- ✘ అస్సాం
- ✘ గోవా

Question Number : 15 Question Id : 630680254721 Is Question Mandatory : No Calculator : None Response Time : N.A Think Time : N.A Minimum Instruction Time : 0

Correct Marks : 1

Which of the following is a popular mobile payment application used widely in India as of 2023?

Options :

- ✘ Interac
- ✘ Venmo
- ✔ Paytm
- ✘ Square Cash

Question Number : 15 Question Id : 630680254721 Is Question Mandatory : No Calculator : None Response Time : N.A Think Time : N.A Minimum Instruction Time : 0

Correct Marks : 1

క్రింది వాటిలో 2023 నాటికి భారతదేశంలో విస్తృతంగా ఉపయోగించబడుతున్న ప్రముఖ మొబైల్ చెల్లింపు అప్లికేషన్ ఏది?

Options :

- ✘ ఇంటరాక్
- ✘ వెన్మో
- ✔ Paytm
- ✘ స్కేవర్ క్యాష్

Question Number : 16 Question Id : 630680254722 Is Question Mandatory : No Calculator : None Response Time : N.A Think Time : N.A Minimum Instruction Time : 0

Correct Marks : 1

Which of the following cities in India has been rated as the cleanest city in the Swachh Sarvekshan 2022 survey conducted by the

Ministry of Housing and Urban Affairs?

Options :

- ✓ Indore
- * Surat
- * Bhopal
- * Varanasi

Question Number : 16 Question Id : 630680254722 Is Question Mandatory : No Calculator : None Response Time : N.A Think Time : N.A Minimum Instruction Time : 0

Correct Marks : 1

గృహ మరియు పట్టణ వ్యవహారాల మంత్రిత్వ శాఖ నిర్వహించిన స్వచ్ఛ సర్వేక్షన్ 2022 సర్వేలో భారతదేశంలోని ఈ క్రింది నగరాల్లో అత్యంత పరిశుభ్రమైన నగరంగా రేట్ చేయబడిన నగరం ఏది?

Options :

- ✓ ఇండోర్
- * సూరత్
- * భోపాల్
- * వారణాసి

Question Number : 17 Question Id : 630680254723 Is Question Mandatory : No Calculator : None Response Time : N.A Think Time : N.A Minimum Instruction Time : 0

Correct Marks : 1

Which of the following diseases is caused by a virus and can be prevented by vaccination?

Options :

- * Malaria
- * Tuberculosis
- ✓ Hepatitis B
- * Dengue fever

Question Number : 17 Question Id : 630680254723 Is Question Mandatory : No Calculator : None Response Time : N.A Think Time : N.A Minimum Instruction Time : 0

Correct Marks : 1

క్రింది వాటిల్లో వైరస్ వల్ల సోకి, టీకా ద్వారా నివారించగలిగే వ్యాధి ఏది?

Options :

- * మలేరియా
- * క్షయవ్యాధి
- ✓ హెపటైటిస్ B
- * డెంగ్యూ జ్వరం

Question Number : 18 Question Id : 630680254724 Is Question Mandatory : No Calculator : None Response Time : N.A Think Time : N.A Minimum Instruction Time : 0

Correct Marks : 1

Which animal was declared as the National Aquatic Animal of India in 2022?

Options :

- * Olive Ridley Turtle
- ✓ Gangetic River Dolphin
- * Gharial
- * Blue Whale

Question Number : 18 Question Id : 630680254724 Is Question Mandatory : No Calculator : None Response Time : N.A Think Time : N.A Minimum Instruction Time : 0

Correct Marks : 1

2022 లో భారతదేశ జాతీయ జల జంతువుగా ప్రకటించబడిన జంతువు ఏది?

Options :

- * ఆలివ్ రిడ్డీ తాపేలు
- ✓ గంగా నది డాల్ఫిన్
- * మొసలి (ఘరియాల్)
- * నీలి తిమింగలం

Question Number : 19 Question Id : 630680254725 Is Question Mandatory : No Calculator : None Response Time : N.A Think Time : N.A Minimum Instruction Time : 0

Correct Marks : 1

Which of the following is NOT an organ of the human body?

Options :

- ✓ Photophores
- ✗ Liver
- ✗ Esophagus
- ✗ Small intestine

Question Number : 19 Question Id : 630680254725 Is Question Mandatory : No Calculator : None Response Time : N.A Think Time : N.A Minimum Instruction Time : 0

Correct Marks : 1

క్రింది వాటిలో మానవ శరీరంలోని అవయవం కానిది ఏది?

Options :

- ✓ ఫోటోఫోర్స్
- ✗ కాలేయం
- ✗ అన్నవాహిక
- ✗ చిన్న ప్రేగు

Question Number : 20 Question Id : 630680254726 Is Question Mandatory : No Calculator : None Response Time : N.A Think Time : N.A Minimum Instruction Time : 0

Correct Marks : 1

Which of the following is an example of a macromolecule?

Options :

- ✗ Water
- ✗ Glucose
- ✗ Sodium chloride
- ✓ Deoxyribonucleic acid (DNA)

Question Number : 20 Question Id : 630680254726 Is Question Mandatory : No Calculator : None Response Time : N.A Think Time : N.A Minimum Instruction Time : 0

Correct Marks : 1

క్రింది వాటిలో బృహదనువుకు ఉదాహరణ ఏది?

Options :

- ✗ నీరు
- ✗ గ్లూకోజ్
- ✗ సోడియం క్లోరైడ్
- ✓ డియోక్సిరైబోన్యూక్లిక్ యాసిడ్ (DNA)

Question Number : 21 Question Id : 630680254727 Is Question Mandatory : No Calculator : None Response Time : N.A Think Time : N.A Minimum Instruction Time : 0

Correct Marks : 1

Which of the following is required to increase the absorption of iron in the human body?

Options :

- ✗ Phytate
- ✓ Vitamin C
- ✗ Calcium
- ✗ Polyphenols

Question Number : 21 Question Id : 630680254727 Is Question Mandatory : No Calculator : None Response Time : N.A Think Time : N.A Minimum Instruction Time : 0

Correct Marks : 1

మానవ శరీరంలో ఇనుము శోషణను పెంచడానికి ఈ క్రింది వాటిలో అవసరమైనది ఏది?

Options :

- ✗ ఫైటేట్
- ✓ విటమిన్ C
- ✗ కార్షియం
- ✗ పాలీఫెనాల్స్

Question Number : 22 Question Id : 630680254728 Is Question Mandatory : No Calculator : None Response Time : N.A Think Time : N.A Minimum Instruction Time : 0

Correct Marks : 1

Which of the following is a type of ecological succession that occurs in an area that was previously devoid of life?

Options :

- ✓ Primary succession
- ✗ Secondary succession
- ✗ Tertiary succession
- ✗ Pioneer succession

Question Number : 22 Question Id : 630680254728 Is Question Mandatory : No Calculator : None Response Time : N.A Think Time : N.A Minimum Instruction Time : 0

Correct Marks : 1

క్రింది వాటిలో మునుపు జీవం లేని ప్రాంతంలో సంభవించే ఒక రకమైన పర్యావరణ అనుక్రమణ ఏది?

Options :

- ✓ ప్రాథమిక అనుక్రమణ
- ✗ ద్వితీయ అనుక్రమణ
- ✗ తృతీయ అనుక్రమణ
- ✗ మార్గదర్శక అనుక్రమణ

Question Number : 23 Question Id : 630680254729 Is Question Mandatory : No Calculator : None Response Time : N.A Think Time : N.A Minimum Instruction Time : 0

Correct Marks : 1

Which of the following cooking methods involves a chemical reaction that results in the formation of a new substance?

Options :

- ✗ Boiling corn
- ✗ Frying a chicken
- ✗ Steaming vegetables
- ✓ Baking a cake

Question Number : 23 Question Id : 630680254729 Is Question Mandatory : No Calculator : None Response Time : N.A Think Time : N.A Minimum Instruction Time : 0

Correct Marks : 1

క్రింది వాటిలో వండినప్పుడు ఒక కొత్త పదార్థం ఏర్పడే రసాయన చర్య ఏది?

Options :

- ✗ ఉడకబెట్టిన మొక్కజొన్న
- ✗ చికెన్ను వేయించడం
- ✗ కూరగాయలకు ఆవిరి పట్టడం
- ✓ కేక్కు బేక్ చేయడం

Question Number : 24 Question Id : 630680254730 Is Question Mandatory : No Calculator : None Response Time : N.A Think Time : N.A Minimum Instruction Time : 0

Correct Marks : 1

Which of the following regions in India is particularly vulnerable to sea-level rise, tropical cyclones, and riverine flooding?

Options :

- ✗ Patna
- ✓ Mumbai
- ✗ Jhansi
- ✗ Indore

Question Number : 24 Question Id : 630680254730 Is Question Mandatory : No Calculator : None Response Time : N.A Think Time : N.A Minimum Instruction Time : 0

Correct Marks : 1

క్రింది వాటిలో భారతదేశంలోని సముద్ర మట్టం పెరగడం, ఉష్ణమండల తుఫానులు మరియు నదీ ప్రవాహాలకు గురయ్యే ప్రాంతం ఏది?

Options :

- ✗ పాట్నా
- ✓ ముంబై

- * రూన్స్
- * ఇండోర్

Question Number : 25 Question Id : 630680254731 Is Question Mandatory : No Calculator : None Response Time : N.A Think Time : N.A Minimum Instruction Time : 0

Correct Marks : 1

Choose the correct option based on the statements below:

Statement 1: Disaster Risk Reduction (DRR) is the process of minimizing the impact of disasters on society through precautionary measures.

Statement 2: Early warning systems are a critical component of disaster risk reduction.

Options :

- * Only statement 1 is true
- * Only Statement 2 is true
- ✓ Both statements are true
- * Neither statements are true

Question Number : 25 Question Id : 630680254731 Is Question Mandatory : No Calculator : None Response Time : N.A Think Time : N.A Minimum Instruction Time : 0

Correct Marks : 1

దిగువ తెలిపిన ప్రకటనల ఆధారంగా సరైన ఎంపికను ఎంచుకోండి:

ప్రకటన 1: డిజాస్టర్ రిస్క్ రిడక్షన్ (DRR) అనేది ముందు జాగ్రత్త చర్యల ద్వారా సమాజంపై విపత్తుల ప్రభావాన్ని తగ్గించే ప్రక్రియ.

ప్రకటన 2: ముందస్తు హెచ్చరిక వ్యవస్థలు విపత్తు ప్రమాదాన్ని తగ్గించడంలో కీలకమైన అంశం.

Options :

- * ప్రకటన 1 మాత్రమే సరైనది
- * ప్రకటన 2 మాత్రమే సరైనది
- ✓ రెండు ప్రకటనలు సరైనవే
- * రెండు ప్రకటనలలో ఏదీ సరైనది కాదు

Question Number : 26 Question Id : 630680254732 Is Question Mandatory : No Calculator : None Response Time : N.A Think Time : N.A Minimum Instruction Time : 0

Correct Marks : 1

Choose the correct option based on the statements below:

Statement 1: Remote sensing and GIS technologies can be used for damage assessment before a disaster.

Statement 2: Remote sensing and GIS technologies can be used for post-disaster damage assessment and reconstruction planning.

Options :

- * Only statement 1 is true
- * Only Statement 2 is true
- ✓ Both statements are true
- * Neither statements are true

Question Number : 26 Question Id : 630680254732 Is Question Mandatory : No Calculator : None Response Time : N.A Think Time : N.A Minimum Instruction Time : 0

Correct Marks : 1

దిగువ ప్రకటనల ఆధారంగా సరైన ఎంపికను ఎంచుకోండి:

ప్రకటన 1: విపత్తుకు ముందు నష్టాన్ని అంచనా వేయడానికి రిమోట్ సెన్సింగ్ మరియు GIS సాంకేతికతలను ఉపయోగించవచ్చు.

ప్రకటన 2: రిమోట్ సెన్సింగ్ మరియు GIS సాంకేతికతలను విపత్తు అనంతర నష్టం అంచనా మరియు పునర్నిర్మాణ ప్రణాళిక కోసం ఉపయోగించవచ్చు.

Options :

- * ప్రకటన 1 మాత్రమే సరైనది
- * ప్రకటన 2 మాత్రమే సరైనది
- ✓ రెండు ప్రకటనలు సరైనవే
- * రెండు ప్రకటనలలో ఏదీ సరైనది కాదు

Question Number : 27 Question Id : 630680254733 Is Question Mandatory : No Calculator : None Response Time : N.A Think Time : N.A Minimum Instruction Time : 0

Correct Marks : 1

Choose the correct option based on the statements below:

Statement 1: Air pollution is caused only by human activities.

Statement 2: Planting more trees can significantly reduce air pollution levels.

Options :

- * Only Statement 1 is true

- ✓ Only Statement 2 is true
- ✗ Both statements are true
- ✗ Neither statements are true

Question Number : 27 Question Id : 630680254733 Is Question Mandatory : No Calculator : None Response Time : N.A Think Time : N.A Minimum Instruction Time : 0

Correct Marks : 1

దిగువ ప్రకటనల ఆధారంగా సరైన ఎంపికను ఎంచుకోండి:

ప్రకటన 1: వాయు కాలుష్యం కేవలం మానవ కార్యకలాపాల వల్ల మాత్రమే సంభవిస్తుంది.

ప్రకటన 2: ఎక్కువ చెట్లను నాటడం వల్ల వాయు కాలుష్య స్థాయిలు గణనీయంగా తగ్గుతాయి.

Options :

- ✗ ప్రకటన 1 మాత్రమే సరైనది
- ✓ ప్రకటన 2 మాత్రమే సరైనది
- ✗ రెండు ప్రకటనలు సరైనవే
- ✗ రెండు ప్రకటనలలో ఏదీ సరైనది కాదు

Question Number : 28 Question Id : 630680254734 Is Question Mandatory : No Calculator : None Response Time : N.A Think Time : N.A Minimum Instruction Time : 0

Correct Marks : 1

Choose the correct option based on the statements below:

Statement 1: Marine pollution only affects marine life and ecosystems.

Statement 2: Plastic pollution is the only form of marine pollution.

Options :

- ✗ Only statement 1 is true
- ✗ Only Statement 2 is true
- ✗ Both statements are true
- ✓ Neither statements are true

Question Number : 28 Question Id : 630680254734 Is Question Mandatory : No Calculator : None Response Time : N.A Think Time : N.A Minimum Instruction Time : 0

Correct Marks : 1

దిగువ ప్రకటనల ఆధారంగా సరైన ఎంపికను ఎంచుకోండి:

ప్రకటన 1: సముద్ర కాలుష్యం సముద్ర జీవులు మరియు పర్యావరణ వ్యవస్థలను మాత్రమే ప్రభావితం చేస్తుంది.

ప్రకటన 2: ప్లాస్టిక్ కాలుష్యం అనేది సముద్ర కాలుష్యం యొక్క ఏకైక కారకం.

Options :

- ✗ ప్రకటన 1 మాత్రమే సరైనది
- ✗ ప్రకటన 2 మాత్రమే సరైనది
- ✗ రెండు ప్రకటనలు సరైనవే
- ✓ రెండు ప్రకటనలలో ఏదీ సరైనది కాదు

Question Number : 29 Question Id : 630680254735 Is Question Mandatory : No Calculator : None Response Time : N.A Think Time : N.A Minimum Instruction Time : 0

Correct Marks : 1

Choose the correct option based on the statements below:

Statement 1: Greenhouse gases trap heat in the Earth's atmosphere, leading to the greenhouse effect.

Statement 2: The main greenhouse gases include carbon dioxide, methane, and nitrogen oxides

Options :

- ✗ Only statement 1 is true
- ✗ Only Statement 2 is true
- ✓ Both statements are true
- ✗ Neither statements are true

Question Number : 29 Question Id : 630680254735 Is Question Mandatory : No Calculator : None Response Time : N.A Think Time : N.A Minimum Instruction Time : 0

Correct Marks : 1

దిగువ ప్రకటనల ఆధారంగా సరైన ఎంపికను ఎంచుకోండి:

ప్రకటన 1: గ్రీన్ హౌజ్ వాయువులు భూమి యొక్క వాతావరణంలో వేడిని బంధిస్తాయి, ఇది గ్రీన్ హౌజ్ ప్రభావానికి దారి తీస్తుంది.

ప్రకటన 2: ప్రధాన గ్రీన్ హౌజ్ వాయువులలో కార్బన్ డయాక్సైడ్, మీథేన్ మరియు నైట్రోజన్ ఆక్సైడ్లు కలవు

Options :

- ✗ ప్రకటన 1 మాత్రమే సరైనది

- * ప్రకటన 2 మాత్రమే సరైనది
- ✓ రెండు ప్రకటనలు సరైనవే
- * రెండు ప్రకటనలలో ఏదీ సరైనది కాదు

Question Number : 30 Question Id : 630680254736 Is Question Mandatory : No Calculator : None Response Time : N.A Think Time : N.A Minimum Instruction Time : 0

Correct Marks : 1

Choose the correct option based on the statements below:

Statement 1: Ozone depletion is caused by human-made chemicals such as chlorofluorocarbons (CFCs).

Statement 2: Ozone depletion only occurs in the lower atmosphere where humans live.

Options :

- ✓ Only statement 1 is true
- * Only Statement 2 is true
- * Both statements are true
- * Neither statements are true

Question Number : 30 Question Id : 630680254736 Is Question Mandatory : No Calculator : None Response Time : N.A Think Time : N.A Minimum Instruction Time : 0

Correct Marks : 1

దిగువ ప్రకటనల ఆధారంగా సరైన ఎంపికను ఎంచుకోండి:

ప్రకటన 1: క్లోరోఫ్లోరో కార్బన్స్ (CFCలు) వంటి మానవ నిర్మిత రసాయనాల వల్ల ఓజోన్ క్షీణత ఏర్పడుతుంది.

ప్రకటన 2: ఓజోన్ క్షీణత మానవులు నివసించే దిగువ వాతావరణంలో మాత్రమే సంభవిస్తుంది.

Options :

- ✓ ప్రకటన 1 మాత్రమే సరైనది
- * ప్రకటన 2 మాత్రమే సరైనది
- * రెండు ప్రకటనలు సరైనవే
- * రెండు ప్రకటనలలో ఏదీ సరైనది కాదు

Question Number : 31 Question Id : 630680254737 Is Question Mandatory : No Calculator : None Response Time : N.A Think Time : N.A Minimum Instruction Time : 0

Correct Marks : 1

Choose the correct option based on the statements below:

Statement 1: Deforestation leads to loss of biodiversity and ecosystem services.

Statement 2: The government of India has established community-based forest management systems to involve local communities in the conservation and management of forest resources.

Options :

- * Only statement 1 is true
- * Only Statement 2 is true
- ✓ Both statements are true
- * Neither statements are true

Question Number : 31 Question Id : 630680254737 Is Question Mandatory : No Calculator : None Response Time : N.A Think Time : N.A Minimum Instruction Time : 0

Correct Marks : 1

దిగువ ప్రకటనల ఆధారంగా సరైన ఎంపికను ఎంచుకోండి:

ప్రకటన 1: అటవీ నిర్మూలన జీవవైవిధ్యం మరియు పర్యావరణ వ్యవస్థ సేవల నష్టానికి దారితీస్తుంది.

ప్రకటన 2: అటవీ వనరుల సంరక్షణ మరియు నిర్వహణలో స్థానిక సంఘాలను భాగస్వామ్యం చేయడానికి భారత ప్రభుత్వం కమ్యూనిటీ-ఆధారిత అటవీ నిర్వహణ వ్యవస్థలను ఏర్పాటు చేసింది.

Options :

- * ప్రకటన 1 మాత్రమే సరైనది
- * ప్రకటన 2 మాత్రమే సరైనది
- ✓ రెండు ప్రకటనలు సరైనవే
- * రెండు ప్రకటనలలో ఏదీ సరైనది కాదు

Question Number : 32 Question Id : 630680254738 Is Question Mandatory : No Calculator : None Response Time : N.A Think Time : N.A Minimum Instruction Time : 0

Correct Marks : 1

Choose the correct option based on the statements below:

Statement 1: Biodegradable plastics are a better alternative to traditional plastics.

Statement 2: The production of some biodegradable plastics requires large amounts of energy and resources, and their disposal can still contribute to environmental pollution.

Options :

- * Only statement 1 is true
- * Only Statement 2 is true
- ✓ Both statements are true
- * Neither statements are true

Question Number : 32 Question Id : 630680254738 Is Question Mandatory : No Calculator : None Response Time : N.A Think Time : N.A Minimum Instruction Time : 0

Correct Marks : 1

దిగువ ప్రకటనల ఆధారంగా సరైన ఎంపికను ఎంచుకోండి:

ప్రకటన 1: జీవశైథిల్య షాస్టిక్లు సాంప్రదాయ షాస్టిక్లకు మంచి ప్రత్యామ్నాయం.

ప్రకటన 2: కొన్ని జీవశైథిల్య షాస్టిక్ల ఉత్పత్తికి పెద్ద మొత్తంలో శక్తి మరియు వనరులు అవసరమవుతాయి మరియు వాటిని పారవేయడం ఇప్పటికీ పర్యావరణ కాలుష్యానికి దోహదం చేస్తుంది.

Options :

- * ప్రకటన 1 మాత్రమే సరైనది
- * ప్రకటన 2 మాత్రమే సరైనది
- ✓ రెండు ప్రకటనలు సరైనవే
- * రెండు ప్రకటనలలో ఏదీ సరైనది కాదు

Question Number : 33 Question Id : 630680254739 Is Question Mandatory : No Calculator : None Response Time : N.A Think Time : N.A Minimum Instruction Time : 0

Correct Marks : 1

Choose the correct option based on the statements below:

Statement 1: The ozone layer is essential to protect living organisms from harmful ultraviolet (UV) radiation from the sun.

Statement 2: The Montreal Protocol, an international agreement, was successful in phasing out the production of ozone-depleting substances.

Options :

- * Only statement 1 is true
- * Only Statement 2 is true
- ✓ Both statements are true
- * Neither statements are true

Question Number : 33 Question Id : 630680254739 Is Question Mandatory : No Calculator : None Response Time : N.A Think Time : N.A Minimum Instruction Time : 0

Correct Marks : 1

దిగువ ప్రకటనల ఆధారంగా సరైన ఎంపికను ఎంచుకోండి:

ప్రకటన 1: సూర్యుడి నుండి వచ్చే హానికరమైన అతినిలలోహిత (UV) వికిరణాల నుండి జీవులను రక్షించడానికి ఓజోన్ పొర అవసరం.

ప్రకటన 2: మాంట్రీయల్ ప్రోటోకాల్, అనే అంతర్జాతీయ ఒప్పందం, ఓజోన్ నిక్షేపణంపై పదార్థాల ఉత్పత్తిని దశలవారీగా తగ్గించడంలో విజయవంతమైంది.

Options :

- * ప్రకటన 1 మాత్రమే సరైనది
- * ప్రకటన 2 మాత్రమే సరైనది
- ✓ రెండు ప్రకటనలు సరైనవే
- * రెండు ప్రకటనలలో ఏదీ సరైనది కాదు

Question Number : 34 Question Id : 630680254740 Is Question Mandatory : No Calculator : None Response Time : N.A Think Time : N.A Minimum Instruction Time : 0

Correct Marks : 1

Which of the following statements are true regarding the monsoon climate of India?

- A. It brings rainfall during the summer season
- B. It is caused by the differential heating of land and water
- C. It affects only the coastal regions of India
- D. It is responsible for 80-90% of the rainfall in India

Options :

- * Only statement D is true
- * Only statements A and B are true
- * Only statements A, B and C are true
- ✓ Only statements A, B and D are true

Question Number : 34 Question Id : 630680254740 Is Question Mandatory : No Calculator : None Response Time : N.A Think Time : N.A Minimum Instruction Time : 0

Correct Marks : 1

భారతదేశంలోని రుతుపవన వాతావరణానికి సంబంధించి ఈ క్రింది ప్రకటనలలో నిజమైనది ఏది?

- A. ఇది వేసవి కాలంలో వర్షపాతాన్ని తేస్తుంది
- B. ఇది భూమి మరియు నీటి యొక్క భేదాత్మక వేడి వలన ఏర్పడుతుంది
- C. ఇది భారతదేశంలోని తీర ప్రాంతాలను మాత్రమే ప్రభావితం చేస్తుంది
- D. భారతదేశంలో 80-90% వర్షపాతానికి ఇది బాధ్యత వహిస్తుంది

Options :

- ✘ ప్రకటన D మాత్రమే సరైనది
- ✘ A మరియు B ప్రకటనలు మాత్రమే సరైనవి
- ✘ A, B మరియు C ప్రకటనలు మాత్రమే సరైనవి
- ✔ A, B మరియు D ప్రకటనలు మాత్రమే సరైనవి

Question Number : 35 Question Id : 630680254741 Is Question Mandatory : No Calculator : None Response Time : N.A Think Time : N.A Minimum Instruction Time : 0

Correct Marks : 1

Which of the following statements about natural resources in India is/are correct?

- I. India has abundant reserves of coal, iron ore, and bauxite.
- II. India has the world's smallest reserve of thorium.
- III. India is in top 5 countries producing of crude oil and natural gas per year.
- IV. Major Lithium deposits have been discovered in Kashmir.

Options :

- ✘ I and II
- ✘ I, II, and III
- ✔ I and IV
- ✘ I, II, III, and IV

Question Number : 35 Question Id : 630680254741 Is Question Mandatory : No Calculator : None Response Time : N.A Think Time : N.A Minimum Instruction Time : 0

Correct Marks : 1

భారతదేశంలోని సహజ వనరుల గురించి ఈ క్రింది వాటిలో సరైనది/వి ఏది/వి?

- I. భారతదేశంలో బొగ్గు, ఇనుప ఖనిజం మరియు బాక్సైట్ నిల్వలు పుష్కలంగా ఉన్నాయి.
- II. ప్రపంచంలోనే అతి తక్కువ ధోరియం నిల్వలు భారత్లో కలవు.
- III. ప్రతి సంవత్సరం ముడి చమురు మరియు సహజవాయువును ఉత్పత్తి చేసే అగ్ర 5 దేశాలలో భారతదేశం కలదు.
- IV. కాశ్మీర్లో పెద్ద మొత్తంలో లిథియం నిక్షేపాలు కనుగొనబడ్డాయి.

Options :

- ✘ I మరియు II
- ✘ I, II, మరియు III
- ✔ I మరియు IV
- ✘ I, II, III, మరియు IV

Question Number : 36 Question Id : 630680254742 Is Question Mandatory : No Calculator : None Response Time : N.A Think Time : N.A Minimum Instruction Time : 0

Correct Marks : 1

Which of the following statements about the Deccan Plateau are true?

- a. It is located in the southern part of India.
- b. It is a volcanic plateau.
- c. It is a fertile region with black soil.
- d. It is the smallest plateau in India.

Options :

- ✘ Only statements a and b are true
- ✘ Only statements c and b are true
- ✔ Only statements a, b and c are true
- ✘ Only statements c and d are true

Question Number : 36 Question Id : 630680254742 Is Question Mandatory : No Calculator : None Response Time : N.A Think Time : N.A Minimum Instruction Time : 0

Correct Marks : 1

దక్కన్ పీఠభూమికి సంబంధించి ఈ క్రింది వాటిలో సరైనవి ఏవి?

- a. ఇది భారతదేశం యొక్క దక్షిణ భాగంలో కలదు.

- b. ఇది అగ్నిపర్వత పీఠభూమి.
c. ఇది నల్ల రేగడి నేలతో కూడిన సారవంతమైన ప్రాంతం.
d. ఇది భారతదేశంలోనే అతి చిన్న పీఠభూమి.

Options :

- ✘ a మరియు b ప్రకటనలు మాత్రమే సరైనవి
✘ c మరియు b ప్రకటనలు మాత్రమే సరైనవి
✔ a, b మరియు c ప్రకటనలు మాత్రమే సరైనవి
✘ c మరియు d ప్రకటనలు మాత్రమే సరైనవి

Question Number : 37 Question Id : 630680254743 Is Question Mandatory : No Calculator : None Response Time : N.A Think Time : N.A Minimum Instruction Time : 0

Correct Marks : 1

Which of the following statements are true about the Western Ghats in India?

- a) The Western Ghats is a mountain range that runs parallel to the western coast of India.
b) It is a UNESCO World Heritage Site and a biodiversity hotspot.
c) The Western Ghats are home to several endemic species of flora and fauna, including the Lion-tailed macaque and the Nilgiri Tahr.
d) The vegetation along the Western Ghats includes tropical evergreen forests, semi-evergreen forests, and grasslands.

Options :

- ✔ Statements a, b, c and d are true
✘ Only statements a, b and d are true
✘ Only statements b, c and d are true
✘ Only statements c and d are true

Question Number : 37 Question Id : 630680254743 Is Question Mandatory : No Calculator : None Response Time : N.A Think Time : N.A Minimum Instruction Time : 0

Correct Marks : 1

భారతదేశంలోని పశ్చిమ కనుమలకు సంబంధించి ఈ క్రింది వాటిలో ఏది సరైనది?

- a) పశ్చిమ కనుమలు భారతదేశంలోని పశ్చిమ తీరానికి సమాంతరంగా ఉన్న పర్వత శ్రేణి.
b) ఇది UNESCO ప్రపంచ వారసత్వ ప్రదేశం మరియు జీవవైవిధ్యానికి ముఖ్య ప్రదేశం .
c) పశ్చిమ కనుమలు అనేక స్థానిక జాతుల వృక్ష మరియు జంతుజాలాలకి నిలయంగా ఉన్నాయి, వీటిలో సింహం-తోక మకార్ మరియు నీలగిరి తహర్ కలవు.
d) పశ్చిమ కనుమల వెంబడి గల వృక్షసంపదలో ఉష్ణమండల సతత హరిత అరణ్యాలు, పాక్షిక-సతత హరిత అరణ్యాలు మరియు గడ్డి భూములు కలవు.

Options :

- ✔ a, b, c మరియు d ప్రకటనలు సరైనవి
✘ a, b మరియు d ప్రకటనలు మాత్రమే సరైనవి
✘ b, c మరియు d ప్రకటనలు మాత్రమే సరైనవి
✘ c మరియు d ప్రకటనలు మాత్రమే సరైనవి

Question Number : 38 Question Id : 630680254744 Is Question Mandatory : No Calculator : None Response Time : N.A Think Time : N.A Minimum Instruction Time : 0

Correct Marks : 1

Which of the following statements about the demographic profile of India is/are true?

- A) India is the third most populous country in the world as of 2022.
B) The population of India is predominantly rural.
C) The sex ratio in India has been improving over the years.

Options :

- ✘ Only statement B is true
✘ Only statement C is true
✔ Only statements B and C are true
✘ Only statements A and C are true

Question Number : 38 Question Id : 630680254744 Is Question Mandatory : No Calculator : None Response Time : N.A Think Time : N.A Minimum Instruction Time : 0

Correct Marks : 1

భారతదేశం యొక్క జనసంఖ్యా సంబంధమైన ప్రొఫైలుకు సంబంధించి ఈ క్రింది ప్రకటనల్లో ఏది/వి సరైనది/వి?

- A) 2022 నాటికి ప్రపంచంలో అత్యధిక జనాభా కలిగిన మూడవ దేశం భారతదేశం.
B) భారతదేశంలోని జనాభా ప్రధానంగా గ్రామీణులు.
C) భారతదేశంలో లింగ నిష్పత్తి కొన్ని సంవత్సరాలుగా మెరుగుపడుతోంది.

Options :

- ✘ B ప్రకటన మాత్రమే సరైనది

- ✘ C ప్రకటన మాత్రమే సరైనది
- ✔ B మరియు C ప్రకటనలు మాత్రమే సరైనవి
- ✘ A మరియు C ప్రకటనలు మాత్రమే సరైనవి

Question Number : 39 Question Id : 630680254745 Is Question Mandatory : No Calculator : None Response Time : N.A Think Time : N.A Minimum Instruction Time : 0

Correct Marks : 1

Which of the following factors contribute to poverty in India?

- a. Excess of education and skills
- b. Unequal distribution of land and other resources
- c. Low wages and poor working conditions
- d. Gender inequality

Options :

- ✘ Only statements a and b are true
- ✔ Only statements b, c and d are true
- ✘ Only statements a, b and c are true
- ✘ Only statements c and d are true

Question Number : 39 Question Id : 630680254745 Is Question Mandatory : No Calculator : None Response Time : N.A Think Time : N.A Minimum Instruction Time : 0

Correct Marks : 1

భారతదేశంలో పేదరికానికి ఈ క్రింది అంశాలలో దోహదం చేసేది ఏది?

- a. మితిమీరిన విద్య మరియు నైపుణ్యాలు
- b. భూమి మరియు ఇతర వనరుల అసమాన పంపిణీ
- c. తక్కువ వేతనాలు మరియు అల్పమైన పని పరిస్థితులు
- d. లింగ అసమానత

Options :

- ✘ a మరియు b ప్రకటనలు మాత్రమే సరైనవి
- ✔ b, c మరియు d ప్రకటనలు మాత్రమే సరైనవి
- ✘ a, b మరియు c ప్రకటనలు మాత్రమే సరైనవి
- ✘ c మరియు d ప్రకటనలు మాత్రమే సరైనవి

Question Number : 40 Question Id : 630680254746 Is Question Mandatory : No Calculator : None Response Time : N.A Think Time : N.A Minimum Instruction Time : 0

Correct Marks : 1

Which of the following statements about Sikhism and Buddhism in India are true?

- i. Sikhism originated in the 15th century in Punjab, while Buddhism originated in India in the 6th century BCE.
- ii. Both Sikhism and Buddhism accept the caste system and emphasize inequality among all people.
- iii. The Golden Temple in Amritsar is a holy site for Sikhs, while Bodh Gaya is a holy site for Buddhists.
- iv. Sikhism and Buddhism have a significant following in the Indian states of Punjab and Sikkim, respectively.

Options :

- ✘ i and ii
- ✘ ii and iv
- ✘ ii and iii
- ✔ i, iii, and iv

Question Number : 40 Question Id : 630680254746 Is Question Mandatory : No Calculator : None Response Time : N.A Think Time : N.A Minimum Instruction Time : 0

Correct Marks : 1

భారతదేశంలోని సిక్కు మతం మరియు బౌద్ధమతానికి సంబంధించిన ఈ క్రింది ప్రకటనల్లో ఏది సరైనది?

- i. భారతదేశంలో సిక్కు మతం పంజాబ్ లో 15వ శతాబ్దంలో ఉద్భవించగా, బౌద్ధమతం 6వ శతాబ్దం BCEలో ఉద్భవించింది.
- ii. సిక్కు మతం మరియు బౌద్ధమతం రెండూ కుల వ్యవస్థను అంగీకరిస్తాయి మరియు ప్రజలందరి మధ్య అసమానతను నొక్కి చెబుతున్నాయి.
- iii. అమృత్సర్ లోని స్వర్ణ దేవాలయం సిక్కులకు పవిత్ర స్థలం అయితే, బౌద్ధులకు బుద్ధ గయ పవిత్ర స్థలం.
- iv. సిక్కుమతం మరియు బౌద్ధమతం భారతదేశంలోని పంజాబ్ మరియు సిక్కింలో వరుసగా గణనీయమైన అనుచరులను కలిగి ఉన్నాయి.

Options :

- ✘ i మరియు ii
- ✘ ii మరియు iv
- ✘ ii మరియు iii
- ✔ i, iii, మరియు iv

Question Number : 41 Question Id : 630680254747 Is Question Mandatory : No Calculator : None Response Time : N.A Think Time : N.A Minimum Instruction Time : 0

Correct Marks : 1

Match the following types of unemployment in List- I with their descriptions in List- II:

SI No.	Types of unemployment --- List I	SI No.	Descriptions -- List II
A	Frictional unemployment	i	Unemployment due to changes in technology or demand for goods and services
B	Structural unemployment	ii	Unemployment due to lack of skills or education
C	Cyclical unemployment	iii	Unemployment due to seasonal fluctuations in industries
D	Seasonal unemployment	iv	Unemployment due to economic downturns or recessions

Options :

- ✘ A - i, B - ii, C - iii, D - iv
- ✔ A - i, B - ii, C - iv, D - iii
- ✘ A - ii, B - i, C - iv, D - iii
- ✘ A - i, B - iv, C - ii, D - iii

Question Number : 41 Question Id : 630680254747 Is Question Mandatory : No Calculator : None Response Time : N.A Think Time : N.A Minimum Instruction Time : 0

Correct Marks : 1

జాబితా-Iలోని ఈ క్రింది నిరుద్యోగిత రకాలను జాబితా- IIలోని వాటి వివరణలతో జతపరచండి:

వ.సం.	నిరుద్యోగిత రకాలు--- జాబితా I	వ.సం.	వివరణలు - జాబితా II
A	ఘర్షణ నిరుద్యోగం	i	సాంకేతికతలో మార్పులు లేదా వస్తువులు మరియు సేవల డిమాండ్ కారణంగా నిరుద్యోగం
B	నిర్మాణాత్మక నిరుద్యోగం	ii	నైపుణ్యాలు లేదా విద్య లేకపోవడం వల్ల నిరుద్యోగం
C	చక్రియ నిరుద్యోగం	iii	పరిశ్రమలలో కాలానుగుణ హెచ్చుతగ్గుల కారణంగా నిరుద్యోగం
D	కాలానుగుణ నిరుద్యోగం	iv	ఆర్థిక లాభాల క్షీణత లేదా మాంద్యం కారణంగా నిరుద్యోగం

Options :

- ✘ A - i, B - ii, C - iii, D - iv
- ✔ A - i, B - ii, C - iv, D - iii
- ✘ A - ii, B - i, C - iv, D - iii
- ✘ A - i, B - iv, C - ii, D - iii

Question Number : 42 Question Id : 630680254748 Is Question Mandatory : No Calculator : None Response Time : N.A Think Time : N.A Minimum Instruction Time : 0

Correct Marks : 1

Match the following agricultural practices in List -I with their respective regions in India in List -II:

SI No.	Agricultural Practices -- List -I	SI No.	Respective Regions in India -- List -II
A	Shifting cultivation	1	Punjab
B	Terrace farming	2	Northeast India
C	Intensive farming	3	Madhya Pradesh
D	Dryland farming	4	Himalayan foothills

Options :

- ✘ A-1, B-3, C-2, D-4
- ✔ A-2, B-4, C-1, D-3
- ✘ A-3, B-1, C-2, D-4
- ✘ A-3, B-2, C-1, D-4

Question Number : 42 Question Id : 630680254748 Is Question Mandatory : No Calculator : None Response Time : N.A Think Time : N.A Minimum Instruction Time : 0

Correct Marks : 1

జాబితా -Iలోని క్రింది వ్యవసాయ పద్ధతులను జాబితా -IIలోని భారతదేశంలోని వాటి సంబంధిత ప్రాంతాలతో జతపరచండి.

వ. సం.	వ్యవసాయ పద్ధతులు – జాబితా -I	వ. సం.	భారతదేశంలోని సంబంధిత ప్రాంతాలు – జాబితా -II
A	బదిలీ వ్యవసాయం	1	పంజాబ్
B	మిడ్డె వ్యవసాయం	2	ఈశాన్య భారతదేశం
C	సాంద్ర వ్యవసాయం	3	మధ్యప్రదేశ్
D	ఋషి భూమి వ్యవసాయం	4	హిమాలయ పర్వత పాద కొండలు

Options :

✘ A-1, B-3, C-2, D-4

✔ A-2, B-4, C-1, D-3

✘ A-3, B-1, C-2, D-4

✘ A-3, B-2, C-1, D-4

Question Number : 43 Question Id : 630680254749 Is Question Mandatory : No Calculator : None Response Time : N.A Think Time : N.A Minimum Instruction Time : 0

Correct Marks : 1

Match the following sources of energy in List –I with their respective states in India in which they are found in abundance in List --II:

SI No.	Sources of Energy --- List –I	SI No.	Indian States of Abundance—List -II
1	Coal	a	Gujarat
2	Hydroelectric power	b	Jharkhand
3	Wind power	c	Tamil Nadu
4	Solar power	d	Himachal Pradesh

Options :

✘ 1-d, 2-c, 3-b, 4-a

✔ 1-b, 2-d, 3-c, 4-a

✘ 1-d, 2-a, 3-b, 4-c

✘ 1-b, 2-a, 3-c, 4-d

Question Number : 43 Question Id : 630680254749 Is Question Mandatory : No Calculator : None Response Time : N.A Think Time : N.A Minimum Instruction Time : 0

Correct Marks : 1

ఈ క్రింది జాబితా -Iలోని క్రింది శక్తి వనరులను జాబితా-IIలో సమ్మర్థిగా ఉన్న భారతదేశంలోని వాటి సంబంధిత రాష్ట్రాలతో జతపరచండి.

వ.సం.	శక్తి వనరులు --- జాబితా -I	వ.సం.	సమ్మర్థిత గల భారతదేశ రాష్ట్రాలు —జాబితా -II
1	బొగ్గు	a	గుజరాత్
2	జల విద్యుత్ శక్తి	b	ఝార్ఖండ్
3	పవన విద్యుత్ శక్తి	c	తమిళనాడు
4	సార విద్యుత్ శక్తి	d	హిమాచల్ ప్రదేశ్

Options :

✘ 1-d, 2-c, 3-b, 4-a

✔ 1-b, 2-d, 3-c, 4-a

✘ 1-d, 2-a, 3-b, 4-c

✘ 1-b, 2-a, 3-c, 4-d

Question Number : 44 Question Id : 630680254750 Is Question Mandatory : No Calculator : None Response Time : N.A Think

Time : N.A Minimum Instruction Time : 0

Correct Marks : 1

Match the following rivers in India with the states they flow through:

(A) Brahmaputra	(i) Karnataka and Tamil Nadu
(B) Krishna	(ii) Assam and Arunachal Pradesh
(C) Cauvery	(iii) Andhra Pradesh and Chhattisgarh
(D) Godavari	(iv) Maharashtra and Telangana

Options :

✘ A-(ii), B-(iii), C-(iv), D-(i)

✘ A-(iii), B-(i), C-(ii), D-(iv)

✘ A-(iv), B-(ii), C-(i), D-(iii)

✔ A-(ii), B-(iv), C-(i), D-(iii)

Question Number : 44 Question Id : 630680254750 Is Question Mandatory : No Calculator : None Response Time : N.A Think Time : N.A Minimum Instruction Time : 0

Correct Marks : 1

కింది భారతదేశంలోని నదులను అవి ప్రవహించే రాష్ట్రాలతో జతపరచండి :

(A) బ్రహ్మపుత్రి	(i) కర్ణాటక మరియు తమిళనాడు
(B) కృష్ణా	(ii) అస్సాం మరియు అరుణాచల్ ప్రదేశ్
(C) కావేరీ	(iii) ఆంధ్ర ప్రదేశ్ మరియు చత్తీస్ ఘడ్
(D) గోదావరి	(iv) మహారాష్ట్ర మరియు తెలంగాణ

Options :

✘ A-(ii), B-(iii), C-(iv), D-(i)

✘ A-(iii), B-(i), C-(ii), D-(iv)

✘ A-(iv), B-(ii), C-(i), D-(iii)

✔ A-(ii), B-(iv), C-(i), D-(iii)

Question Number : 45 Question Id : 630680254751 Is Question Mandatory : No Calculator : None Response Time : N.A Think Time : N.A Minimum Instruction Time : 0

Correct Marks : 1

Match the following Directive Principles of State Policy in List-I with their respective Articles in the Constitution of India in List -II:

Sl No.	Directive Principles of State Policy -- List-I	Sl No.	Articles in the Constitution of India -- List -II
A	Promotion of education and economic interests of Scheduled Castes, Scheduled Tribes, and other weaker sections	i	Article 46
B	Provision for just and humane conditions of work and maternity relief	ii	Article 42
C	Separation of the judiciary from the executive	iii	Article 50
D	Protection of monuments and places and objects of national importance	iv	Article 49

Options :

✘ A - iv, B - ii, C - iii, D - i

✘ A - i, B - iii, C - ii, D - iv

✘ A - iii, B - ii, C - i, D - iv

✔ A - i, B - ii, C - iii, D - iv

Question Number : 45 Question Id : 630680254751 Is Question Mandatory : No Calculator : None Response Time : N.A Think Time : N.A Minimum Instruction Time : 0

Correct Marks : 1

జాబితా-Iలోని రాష్ట్ర విధానానికి సంబంధించిన క్రింది నిర్దేశక సూత్రాలను జాబితా -IIలోని భారత రాజ్యాంగంలోని వాటి సంబంధిత అధికరణాలతో జతపరచండి:

వ.సం.	రాష్ట్ర విధాన నిర్దేశక సూత్రాలు --- జాబితా -I	వ.సం.	భారత రాజ్యాంగంలోని అధికరణాలు--- జాబితా -II
A	షెడ్యూల్డ్ కులాలు, షెడ్యూల్డ్ తెగలు మరియు ఇతర బలహీన వర్గాల విద్య మరియు ఆర్థిక ప్రయోజనాలను ప్రోత్సహించడం	i	అధికరణం 46
B	పని మరియు ప్రసూతి ఉపశమనం యొక్క న్యాయమైన మరియు మానవీయ పరిస్థితులు	ii	అధికరణం 42
C	కార్యనిర్వాహక వ్యవస్థ నుండి న్యాయవ్యవస్థను వేరు చేయడం	iii	అధికరణం 50
D	జాతీయ ప్రాముఖ్యత కలిగిన స్మారక చిహ్నాలు మరియు ప్రదేశాలు మరియు వస్తువుల రక్షణ	iv	అధికరణం 49

Options :

- ✘ A - iv, B - ii, C - iii, D - i
- ✘ A - i, B - iii, C - ii, D - iv
- ✘ A - iii, B - ii, C - i, D - iv
- ✔ A - i, B - ii, C - iii, D - iv

Question Number : 46 Question Id : 630680254752 Is Question Mandatory : No Calculator : None Response Time : N.A Think Time : N.A Minimum Instruction Time : 0

Correct Marks : 1

Which of the following is/are the correct pair/pairs of Fundamental Duties and their article in the Indian Constitution?

- A) To uphold and protect the sovereignty, unity and integrity of India - Article 50
- B) To abide by the Constitution and respect its ideals and institutions, the National Flag and the National Anthem - Article 51A
- C) To promote harmony and the spirit of common brotherhood amongst all the people of India - Article 32
- D) To safeguard public property and to abjure violence - Article 35

Options :

- ✘ Only A
- ✘ Only A and B
- ✔ Only B
- ✘ Only C and D

Question Number : 46 Question Id : 630680254752 Is Question Mandatory : No Calculator : None Response Time : N.A Think Time : N.A Minimum Instruction Time : 0

Correct Marks : 1

ఈ క్రింది వాటిలో ప్రాథమిక విధులు మరియు భారత రాజ్యాంగంలో వాటి అధికరణాల సరియైన జత/లు ఏది/వి?

- A) భారతదేశ సార్వభౌమాధికారం, ఐక్యత మరియు సమగ్రతను సమర్థించడం మరియు రక్షించడం - అధికరణం 50
- B) రాజ్యాంగానికి కట్టుబడి ఉండి, దాని ఆదర్శాలను మరియు సంస్థలను, జాతీయ జెండాను మరియు జాతీయ గీతాన్ని గౌరవించడం - అధికరణం 51A
- C) భారతదేశంలోని ప్రజలందరి మధ్య సామరస్యాన్ని మరియు సాధారణ సోదర భావాన్ని పెంపొందించడం - అధికరణం 32
- D) ప్రజా ఆస్తులను రక్షించుట మరియు హింసను త్యజించుట - అధికరణం 35

Options :

- ✘ A మాత్రమే
- ✘ A మరియు B లు మాత్రమే
- ✔ B మాత్రమే
- ✘ C మరియు D లు మాత్రమే

Question Number : 47 Question Id : 630680254753 Is Question Mandatory : No Calculator : None Response Time : N.A Think Time : N.A Minimum Instruction Time : 0

Correct Marks : 1

Select the correct pair of Fundamental Rights and their related articles:

- A. Right to Equality - Article 14
- B. Right to Freedom of Religion - Article 25-28
- C. Right against Exploitation - Article 32-35
- D. Right to Constitutional Remedies - Article 23-24

Options :

- ✘ Only C

- ✓ Only A and B
- ✗ Only D
- ✗ Only B and C

Question Number : 47 Question Id : 630680254753 Is Question Mandatory : No Calculator : None Response Time : N.A Think Time : N.A Minimum Instruction Time : 0

Correct Marks : 1

ప్రాథమిక హక్కులు మరియు వాటికి సంబంధించిన అధికరణాల సరైన జతను ఎంచుకోండి:

- A. సమానత్వపు హక్కు - అధికరణం 14
- B. మత స్వేచ్ఛపు హక్కు - అధికరణం 25-28
- C. దోపిడీని నిరోధించే హక్కు - అధికరణం 32-35
- D. రాజ్యాంగ పరిష్కారాల హక్కు - అధికరణం 23-24

Options :

- ✗ C మాత్రమే
- ✓ A మరియు B లు మాత్రమే
- ✗ D మాత్రమే
- ✗ B మరియు C లు మాత్రమే

Question Number : 48 Question Id : 630680254754 Is Question Mandatory : No Calculator : None Response Time : N.A Think Time : N.A Minimum Instruction Time : 0

Correct Marks : 1

Select the correct pair of terms related to Indian citizenship with their definitions:

1. Citizenship by birth : Citizenship obtained by birth to at least one Indian parent
2. Citizenship by naturalization : Citizenship obtained by living in India for a certain period of time
3. Citizenship by registration : Citizenship obtained by marriage to an Indian citizen
4. Citizenship by descent : Citizenship obtained by applying to the government and meeting certain requirements

Options :

- ✓ Only options 1 and 2
- ✗ Only options 1 and 3
- ✗ Only options 1 and 4
- ✗ Only options 2 and 4

Question Number : 48 Question Id : 630680254754 Is Question Mandatory : No Calculator : None Response Time : N.A Think Time : N.A Minimum Instruction Time : 0

Correct Marks : 1

భారత పౌరసత్వానికి సంబంధించిన నిర్వచనాలతో సరైన జత నిబంధనలను ఎంచుకోండి:

1. పుట్టుకతో పౌరసత్వం : కనీసం ఒక భారతీయ తల్లిదండ్రులకు పుట్టుక ద్వారా పౌరసత్వం లభిస్తుంది
2. సహజీకరణ ద్వారా పౌరసత్వం : నిర్దిష్ట కాలం పాటు భారతదేశంలో నివసించడం ద్వారా పౌరసత్వం పొందబడుతుంది
3. రిజిస్ట్రేషన్ ద్వారా పౌరసత్వం : భారతీయ పౌరుడిని వివాహం చేసుకోవడం ద్వారా పొందిన పౌరసత్వం
4. సంతతి వారీగా పౌరసత్వం : ప్రభుత్వానికి దరఖాస్తు చేయడం మరియు కొన్ని ఆవశ్యకతలను కలిగి ఉండడం ద్వారా పౌరసత్వం పొందవచ్చు

Options :

- ✓ 1 మరియు 2 ఎంపికలు మాత్రమే
- ✗ 1 మరియు 3 ఎంపికలు మాత్రమే
- ✗ 1 మరియు 4 ఎంపికలు మాత్రమే
- ✗ 2 మరియు 4 ఎంపికలు మాత్రమే

Question Number : 49 Question Id : 630680254755 Is Question Mandatory : No Calculator : None Response Time : N.A Think Time : N.A Minimum Instruction Time : 0

Correct Marks : 1

Choose the correct pair of political positions in India and their corresponding authorities:

Options :

- ✗ Chief Minister of a state: Presiding Officer of the Lower House
- ✗ Governor of a state: Head of Government
- ✗ Speaker of Lok Sabha: Constitutional Head of a State
- ✓ President of India: Head of the State

Question Number : 49 Question Id : 630680254755 Is Question Mandatory : No Calculator : None Response Time : N.A Think Time : N.A Minimum Instruction Time : 0

Correct Marks : 1

భారతదేశంలో సరైన జత రాజకీయ స్థానాలను మరియు వాటికి సంబంధించిన అధికారాలను ఎంచుకోండి:

Options :

- ✘ ఒక రాష్ట్ర ముఖ్యమంత్రి: దిగువ సభ ప్రిసైడింగ్ అధికారి
- ✘ రాష్ట్ర గవర్నర్: ప్రభుత్వ అధిపతి
- ✘ లోక్ సభ స్పీకర్: ఒక రాష్ట్రానికి రాజ్యాంగ అధిపతి
- ✔ భారత రాష్ట్రపతి: రాష్ట్ర అధిపతి

Question Number : 50 Question Id : 630680254756 Is Question Mandatory : No Calculator : None Response Time : N.A Think Time : N.A Minimum Instruction Time : 0

Correct Marks : 1

Which of the following is correctly paired with its description under the Judiciary system of India?

- a) Supreme Court - The highest court of appeal in India
- b) High Court - Deals with cases related to state laws
- c) District Court - Deals with cases related to national security
- d) Lok Adalat - Deals with criminal cases involving heinous crimes

Options :

- ✔ Only option a
- ✘ Only options b and d
- ✘ Only options b and c
- ✘ Only options c and d

Question Number : 50 Question Id : 630680254756 Is Question Mandatory : No Calculator : None Response Time : N.A Think Time : N.A Minimum Instruction Time : 0

Correct Marks : 1

ఈ క్రింది వాటిల్లో భారతదేశ న్యాయవ్యవస్థలో దాని వివరణతో సరిగ్గా జత చేయబడినది ఏది?

- a) సుప్రీంకోర్టు - భారతదేశంలోని అత్యున్నత న్యాయస్థానం
- b) హైకోర్టు - రాష్ట్ర చట్టాలకు సంబంధించిన కేసులతో వ్యవహరిస్తుంది
- c) జిల్లా కోర్టు - జాతీయ భద్రతకు సంబంధించిన కేసులతో వ్యవహరిస్తుంది
- d) లోక్ అదాలత్ - అమానుష నేరాలకు సంబంధించిన క్రిమినల్ కేసులతో వ్యవహరిస్తుంది

Options :

- ✔ a ఎంపిక మాత్రమే
- ✘ b మరియు d ఎంపికలు మాత్రమే
- ✘ b మరియు c ఎంపికలు మాత్రమే
- ✘ c మరియు d ఎంపికలు మాత్రమే

Question Number : 51 Question Id : 630680254757 Is Question Mandatory : No Calculator : None Response Time : N.A Think Time : N.A Minimum Instruction Time : 0

Correct Marks : 1

Pick the correct pair/pairs:

- a. Rajya Sabha: Lower House
- b. Lok Sabha: Upper House
- c. Vidhan Sabha: State Legislative Assembly
- d. Vidhan Parishad: State Legislative Council

Options :

- ✘ Only option a
- ✘ Only options b and d
- ✘ Only options b and c
- ✔ Only options c and d

Question Number : 51 Question Id : 630680254757 Is Question Mandatory : No Calculator : None Response Time : N.A Think Time : N.A Minimum Instruction Time : 0

Correct Marks : 1

సరైన జత/జతలను ఎంచుకోండి:

- a. రాజ్యసభ: దిగువ సభ
- b. లోక్ సభ: ఎగువ సభ
- c. విధానసభ: రాష్ట్ర శాసనసభ
- d. విధాన పరిషత్: రాష్ట్ర శాసన మండలి

Options :

- ✘ a ఎంపిక మాత్రమే
- ✘ b మరియు d ఎంపికలు మాత్రమే
- ✘ b మరియు c ఎంపికలు మాత్రమే

✓ c మరియు d ఎంపికలు మాత్రమే

Question Number : 52 Question Id : 630680254758 Is Question Mandatory : No Calculator : None Response Time : N.A Think Time : N.A Minimum Instruction Time : 0

Correct Marks : 1

Arrange the following State Executive positions in the order of hierarchy, starting with the highest position:

1. Chief Secretary
2. Governor
3. Chief Minister
4. Advocate General

Options :

- ✘ 4, 3, 1, 2
- ✘ 2, 3, 4, 1
- ✓ 2, 3, 1, 4
- ✘ 3, 1, 2, 4

Question Number : 52 Question Id : 630680254758 Is Question Mandatory : No Calculator : None Response Time : N.A Think Time : N.A Minimum Instruction Time : 0

Correct Marks : 1

ఈ క్రింది రాష్ట్ర కార్యనిర్వాహక అధికారులను అత్యున్నత స్థానంతో ప్రారంభించి అధికార క్రమంలో అమర్చండి:

1. ప్రధాన కార్యదర్శి
2. గవర్నర్
3. ముఖ్యమంత్రి
4. అడ్వకేట్ జనరల్

Options :

- ✘ 4, 3, 1, 2
- ✘ 2, 3, 4, 1
- ✓ 2, 3, 1, 4
- ✘ 3, 1, 2, 4

Question Number : 53 Question Id : 630680254759 Is Question Mandatory : No Calculator : None Response Time : N.A Think Time : N.A Minimum Instruction Time : 0

Correct Marks : 1

Arrange the following in the CORRECT order of their occurrence in the Parliamentary Procedure in India:

1. Question Hour
2. Zero Hour
3. Adjournment Motion
4. Calling Attention Motion

Options :

- ✘ 2, 3, 4, 1
- ✘ 1, 2, 4, 3
- ✓ 1, 4, 3, 2
- ✘ 4, 3, 1, 2

Question Number : 53 Question Id : 630680254759 Is Question Mandatory : No Calculator : None Response Time : N.A Think Time : N.A Minimum Instruction Time : 0

Correct Marks : 1

క్రింది వాటిని భారతదేశంలో పార్లమెంటరీ కార్యనిర్వహణలో అవి సంభవించే సరైన క్రమంలో అమర్చండి:

1. ప్రశ్నోత్తరాల సమయం
2. జీరో అవర్
3. వాయిదా తీర్మానం
4. కాలింగ్ అటెన్షన్ మోషన్

Options :

- ✘ 2, 3, 4, 1
- ✘ 1, 2, 4, 3
- ✓ 1, 4, 3, 2
- ✘ 4, 3, 1, 2

Question Number : 54 Question Id : 630680254760 Is Question Mandatory : No Calculator : None Response Time : N.A Think Time : N.A Minimum Instruction Time : 0

Correct Marks : 1

Arrange the following State Institutions in CORRECT order of hierarchy, from top to bottom:

1. District Panchayat
2. Intermediate Panchayat
3. Village and PESA Panchayat
4. Wards

Options :

- ✘ 2, 3, 4, 1
- ✔ 1, 2, 3, 4
- ✘ 1, 4, 3, 2
- ✘ 4, 3, 1, 2

Question Number : 54 Question Id : 630680254760 Is Question Mandatory : No Calculator : None Response Time : N.A Think Time : N.A Minimum Instruction Time : 0

Correct Marks : 1

ఈ క్రింది రాష్ట్ర సంస్థలను సరైన అధికార క్రమంలో అమర్చండి, పై నుండి క్రిందికి:

1. జిల్లా పంచాయతీ
2. మధ్యస్థ పంచాయతీ
3. గ్రామం మరియు పెస పంచాయతీ
4. వార్డులు

Options :

- ✘ 2, 3, 4, 1
- ✔ 1, 2, 3, 4
- ✘ 1, 4, 3, 2
- ✘ 4, 3, 1, 2

Question Number : 55 Question Id : 630680254761 Is Question Mandatory : No Calculator : None Response Time : N.A Think Time : N.A Minimum Instruction Time : 0

Correct Marks : 1

Arrange the following steps in the correct order to describe the process of the formation of a Gram Panchayat in India:

1. Elections are held for the members of the Gram Panchayat.
2. The government announces the creation of a new Gram Panchayat.
3. The members of the Gram Sabha elect the Sarpanch.
4. The members of the Gram Panchayat elect the Up-Sarpanch.

Options :

- ✔ 2-1-3-4
- ✘ 1-2-3-4
- ✘ 2-3-4-1
- ✘ 3-2-1-4

Question Number : 55 Question Id : 630680254761 Is Question Mandatory : No Calculator : None Response Time : N.A Think Time : N.A Minimum Instruction Time : 0

Correct Marks : 1

భారతదేశంలో గ్రామ పంచాయతీ ఏర్పాటు ప్రక్రియను వివరించడానికి ఈ క్రింది దశలను సరైన క్రమంలో అమర్చండి:

1. గ్రామ పంచాయతీ సభ్యులకు ఎన్నికలు నిర్వహించబడతాయి.
2. కొత్త గ్రామ పంచాయతీని ఏర్పాటు చేస్తున్నట్లు ప్రభుత్వం ప్రకటిస్తుంది.
3. గ్రామసభ సభ్యులు సర్పంచ్‌ని ఎన్నుకుంటారు.
4. గ్రామ పంచాయతీ సభ్యులు ఉప-సర్పంచ్‌ను ఎన్నుకుంటారు.

Options :

- ✔ 2-1-3-4
- ✘ 1-2-3-4
- ✘ 2-3-4-1
- ✘ 3-2-1-4

Question Number : 56 Question Id : 630680254762 Is Question Mandatory : No Calculator : None Response Time : N.A Think Time : N.A Minimum Instruction Time : 0

Correct Marks : 1

Arrange the following members of the Panchayati Raj system in India in the correct order of authority, from the lowest to the highest level:

- i. Gram Sabha
- ii. Gram Panchayat
- iii. Zila Parishad

Options :

- ✘ iii, i, ii
- ✘ i, iii, ii

✘ ii, iii, i

✔ i, ii, iii

Question Number : 56 Question Id : 630680254762 Is Question Mandatory : No Calculator : None Response Time : N.A Think Time : N.A Minimum Instruction Time : 0

Correct Marks : 1

భారతదేశంలోని పంచాయితీ రాజ్ వ్యవస్థలోని ఈ క్రింది సభ్యులను క్రింది స్థాయి నుండి అత్యున్నత స్థాయి వరకు సరైన అధికార క్రమంలో అమర్చండి:

i. గ్రామ సభ

ii. గ్రామ పంచాయితీ

iii. జిల్లా పరిషత్

Options :

✘ iii, i, ii

✘ i, iii, ii

✘ ii, iii, i

✔ i, ii, iii

Question Number : 57 Question Id : 630680254763 Is Question Mandatory : No Calculator : None Response Time : N.A Think Time : N.A Minimum Instruction Time : 0

Correct Marks : 1

Arrange the following Acts in chronological order of their occurrence:

a) Rowlatt Act

b) Government of India Act

c) Indian Independence Act

d) Regulating Act

Options :

✔ d, a, b, c

✘ c, d, a, b

✘ b, a, d, c

✘ d, c, b, a

Question Number : 57 Question Id : 630680254763 Is Question Mandatory : No Calculator : None Response Time : N.A Think Time : N.A Minimum Instruction Time : 0

Correct Marks : 1

ఈ క్రింది చట్టాలను అవి ఏర్పరచబడిన కాలక్రమానుసారంగా అమర్చండి:

a) రౌలట్ చట్టం

b) భారత ప్రభుత్వ చట్టం

c) భారత స్వాతంత్ర్య చట్టం

d) రెగ్యులేటింగ్ చట్టం

Options :

✔ d, a, b, c

✘ c, d, a, b

✘ b, a, d, c

✘ d, c, b, a

Question Number : 58 Question Id : 630680254764 Is Question Mandatory : No Calculator : None Response Time : N.A Think Time : N.A Minimum Instruction Time : 0

Correct Marks : 1

Arrange the following events in chronological order:

1. Indigo Movement

2. Partition of Bengal

3. Quit India Movement

4. Formation of Indian National Congress

Options :

✘ 2, 3, 4, 1

✘ 1, 2, 3, 4

✔ 1, 4, 2, 3

✘ 4, 3, 1, 2

Question Number : 58 Question Id : 630680254764 Is Question Mandatory : No Calculator : None Response Time : N.A Think Time : N.A Minimum Instruction Time : 0

Correct Marks : 1

క్రింది సంఘటనలను కాలక్రమానుసారంగా అమర్చండి:

1. ఇండిగో ఉద్యమం
2. బెంగాల్ విభజన
3. క్వీట్ ఇండియా ఉద్యమం
4. భారత జాతీయ కాంగ్రెస్ ఏర్పాటు

Options :

- ✘ 2, 3, 4, 1
- ✘ 1, 2, 3, 4
- ✔ 1, 4, 2, 3
- ✘ 4, 3, 1, 2

Question Number : 59 Question Id : 630680254765 Is Question Mandatory : No Calculator : None Response Time : N.A Think Time : N.A Minimum Instruction Time : 0

Correct Marks : 1

Arrange the following key groups and institutions in chronological order of their formation:

- A. Indian National Congress
- B. All India Muslim League
- C. Ghadar Party
- D. Hindustan Socialist Republican Association

Options :

- ✘ B, A, D, C
- ✘ A, D, C, B
- ✘ C, D, B, A
- ✔ A, B, C, D

Question Number : 59 Question Id : 630680254765 Is Question Mandatory : No Calculator : None Response Time : N.A Think Time : N.A Minimum Instruction Time : 0

Correct Marks : 1

ఈ క్రింది కీలక సమాహాలు మరియు సంస్థల ఏర్పాటు యొక్క కాలక్రమానుసారంగా అమర్చండి:

- A. భారత జాతీయ కాంగ్రెస్
- B. ఆల్ ఇండియా ముస్లిం లీగ్
- C. ఘదర్ పార్టీ
- D. హిందుస్థాన్ సోషలిస్ట్ రిపబ్లికన్ అసోసియేషన్

Options :

- ✘ B, A, D, C
- ✘ A, D, C, B
- ✘ C, D, B, A
- ✔ A, B, C, D

Question Number : 60 Question Id : 630680254766 Is Question Mandatory : No Calculator : None Response Time : N.A Think Time : N.A Minimum Instruction Time : 0

Correct Marks : 1

Arrange the following personalities in chronological order of their death:

1. Rabindranath Tagore
2. Bhagat Singh
3. Mahatma Gandhi
4. Sardar Vallabhbhai Patel

Options :

- ✔ 2, 1, 3, 4
- ✘ 4, 2, 3, 1
- ✘ 3, 2, 1, 4
- ✘ 2, 3, 4, 1

Question Number : 60 Question Id : 630680254766 Is Question Mandatory : No Calculator : None Response Time : N.A Think Time : N.A Minimum Instruction Time : 0

Correct Marks : 1

ఈ క్రింది వ్యక్తులను వారి మరణం యొక్క కాలక్రమానుసారంగా అమర్చండి:

1. రవీంద్రనాథ్ ఠాగూర్
2. భగత్ సింగ్
3. మహాత్మా గాంధీ
4. సర్దార్ వల్లభాయ్ పటేల్

Options :

- ✓ 2, 1, 3, 4
- ✗ 4, 2, 3, 1
- ✗ 3, 2, 1, 4
- ✗ 2, 3, 4, 1

Question Number : 61 Question Id : 630680254767 Is Question Mandatory : No Calculator : None Response Time : N.A Think Time : N.A Minimum Instruction Time : 0

Correct Marks : 1

Arrange the following Socio and Religious Reform events in chronological order of their establishment:

1. Beginning of the Brahmo Samaj
2. Founding of the Theosophical Society
3. Bengal Sati Regulation Act
4. Sharda Act

Options :

- ✗ 2, 3, 4, 1
- ✓ 1, 3, 2, 4
- ✗ 1, 2, 3, 4
- ✗ 4, 2, 3, 1

Question Number : 61 Question Id : 630680254767 Is Question Mandatory : No Calculator : None Response Time : N.A Think Time : N.A Minimum Instruction Time : 0

Correct Marks : 1

ఈ క్రింది సామాజిక మరియు మత సంస్కరణ ఉద్యమాలను వాటి స్థాపన యొక్క కాలక్రమానుసారంగా అమర్చండి:

1. బ్రహ్మ సమాజం ప్రారంభం
2. థియోసాఫికల్ సొసైటీ స్థాపన
3. బెంగాల్ సతీ నియంత్రణ చట్టం
4. శార్దా చట్టం

Options :

- ✗ 2, 3, 4, 1
- ✓ 1, 3, 2, 4
- ✗ 1, 2, 3, 4
- ✗ 4, 2, 3, 1

Question Number : 62 Question Id : 630680254768 Is Question Mandatory : No Calculator : None Response Time : N.A Think Time : N.A Minimum Instruction Time : 0

Correct Marks : 1

Which group of Indian nationalists was formed in 1916 with the aim of achieving Swaraj or self-rule for India?

Options :

- ✗ The Indian National Congress
- ✗ The Muslim League
- ✓ The Home Rule League
- ✗ The Indian Socialist Party

Question Number : 62 Question Id : 630680254768 Is Question Mandatory : No Calculator : None Response Time : N.A Think Time : N.A Minimum Instruction Time : 0

Correct Marks : 1

భారతదేశానికి స్వరాజ్యం లేదా స్వపరిపాలన సాధించే లక్ష్యంతో 1916 లో ఏర్పడిన భారతీయ జాతీయవాదుల సమూహం ఏది?

Options :

- ✗ భారత జాతీయ కాంగ్రెస్
- ✗ ముస్లిం లీగ్
- ✓ హోమ్ రూల్ లీగ్
- ✗ ఇండియన్ సోషలిస్ట్ పార్టీ

Question Number : 63 Question Id : 630680254769 Is Question Mandatory : No Calculator : None Response Time : N.A Think Time : N.A Minimum Instruction Time : 0

Correct Marks : 1

Which organization was formed in 1928 by Bhagat Singh, Chandrashekhar Azad, and other revolutionaries to carry out armed revolution against the British Raj?

Options :

- ✓ The Hindustan Socialist Republican Association

- ✘ The Indian National Congress
- ✘ The Indian National Army
- ✘ The All India Muslim League

Question Number : 63 Question Id : 630680254769 Is Question Mandatory : No Calculator : None Response Time : N.A Think Time : N.A Minimum Instruction Time : 0

Correct Marks : 1

బ్రిటిష్ పరిపాలనకు వ్యతిరేకంగా సాయుధ విప్లవం చేసేందుకు భగత్ సింగ్, చంద్రశేఖర్ ఆజాద్ మరియు ఇతర విప్లవకారులు 1928 లో స్థాపించిన సంస్థ ఏది?

Options :

- ✔ హిందుస్థాన్ సోషలిస్ట్ రిపబ్లికన్ అసోసియేషన్
- ✘ భారత జాతీయ కాంగ్రెస్
- ✘ ఇండియన్ నేషనల్ ఆర్మీ
- ✘ ఆల్ ఇండియా ముస్లిం లీగ్

Question Number : 64 Question Id : 630680254770 Is Question Mandatory : No Calculator : None Response Time : N.A Think Time : N.A Minimum Instruction Time : 0

Correct Marks : 1

_____ is a direct tax in India.

Options :

- ✘ Goods and Services Tax (GST)
- ✘ Excise Duty
- ✘ Customs Duty
- ✔ Corporate Tax

Question Number : 64 Question Id : 630680254770 Is Question Mandatory : No Calculator : None Response Time : N.A Think Time : N.A Minimum Instruction Time : 0

Correct Marks : 1

_____ అనేది భారతదేశంలో ఒక ప్రత్యక్ష పన్ను.

Options :

- ✘ వస్తువులు మరియు సేవల పన్ను (GST)
- ✘ ఎక్సైజ్ సుంకం
- ✘ కస్టమ్స్ సుంకం
- ✔ కార్పొరేట్ పన్ను

Question Number : 65 Question Id : 630680254771 Is Question Mandatory : No Calculator : None Response Time : N.A Think Time : N.A Minimum Instruction Time : 0

Correct Marks : 1

Which of the following schemes is aimed at providing financial assistance to pregnant and lactating women in India?

Options :

- ✘ Pradhan Mantri Jan Dhan Yojana
- ✔ Pradhan Mantri Matru Vandana Yojana
- ✘ Swachh Bharat Abhiyan
- ✘ Digital India Programme

Question Number : 65 Question Id : 630680254771 Is Question Mandatory : No Calculator : None Response Time : N.A Think Time : N.A Minimum Instruction Time : 0

Correct Marks : 1

క్రింది వాటిలో భారతదేశంలోని గర్భిణులు మరియు పాలిచ్చే మహిళలకు ఆర్థిక సహాయం అందించడమే లక్ష్యంగా గల పథకం ఏది?

Options :

- ✘ ప్రధాన మంత్రి జన్ ధన్ యోజన
- ✔ ప్రధాన మంత్రి మాతృ వందన యోజన
- ✘ స్వచ్ఛ భారత్ అభియాన్
- ✘ డిజిటల్ ఇండియా కార్యక్రమము

Question Number : 66 Question Id : 630680254772 Is Question Mandatory : No Calculator : None Response Time : N.A Think Time : N.A Minimum Instruction Time : 0

Correct Marks : 1

Which of the following is NOT an example of foreign direct investment (FDI) in India after liberalization?

Options :

- ✘ Investment in shares of an Indian company by a non-resident
- ✘ Investment in government securities by a foreign institutional investor (FII)
- ✔ Purchase of apparels by a foreign national for personal use
- ✘ Investment in a mutual fund by a non-resident

Question Number : 66 Question Id : 630680254772 Is Question Mandatory : No Calculator : None Response Time : N.A Think Time : N.A Minimum Instruction Time : 0

Correct Marks : 1

సరళీకరణ తర్వాత భారతదేశంలో విదేశీ ప్రత్యక్ష పెట్టుబడులకు (FDI) ఉదాహరణగా చెప్పని వాటిలో ఏది?

Options :

- ✘ ప్రవాసి ద్వారా భారతీయ కంపెనీ షేర్లలో పెట్టుబడి
- ✘ విదేశీ సంస్థాగత పెట్టుబడిదారు (FII) ద్వారా ప్రభుత్వ సెక్యూరిటీలలో పెట్టుబడి
- ✔ వ్యక్తిగత ఉపయోగం కోసం ఒక విదేశీ పౌరుడు దుస్తులను కొనుగోలు చేయడం
- ✘ ప్రవాసి ద్వారా మ్యూచువల్ ఫండ్లలో పెట్టుబడి

Question Number : 67 Question Id : 630680254773 Is Question Mandatory : No Calculator : None Response Time : N.A Think Time : N.A Minimum Instruction Time : 0

Correct Marks : 1

Which of the following is an example of privatization in India under economic reforms since 1991?

Options :

- ✘ Setting up of a new public sector company
- ✔ Selling a stake in an existing public sector company to private players
- ✘ Nationalization of a private company
- ✘ Giving subsidies to a private company

Question Number : 67 Question Id : 630680254773 Is Question Mandatory : No Calculator : None Response Time : N.A Think Time : N.A Minimum Instruction Time : 0

Correct Marks : 1

క్రింది వాటిలో 1991 నుండి ఆర్థిక సంస్కరణల క్రింద భారతదేశంలో ప్రైవేటీకరణకు ఉదాహరణ ఏది?

Options :

- ✘ కొత్త ప్రభుత్వ రంగ సంస్థ ఏర్పాటు
- ✔ ఇప్పటికే ఉన్న ప్రభుత్వ రంగ కంపెనీలో వాటాను ప్రైవేట్ కంపెనీలకు విక్రయించడం
- ✘ ఒక ప్రైవేట్ కంపెనీ యొక్క జాతీయీకరణ
- ✘ ప్రైవేట్ కంపెనీకి రాయితీలు ఇవ్వడం

Question Number : 68 Question Id : 630680254774 Is Question Mandatory : No Calculator : None Response Time : N.A Think Time : N.A Minimum Instruction Time : 0

Correct Marks : 1

Which Five Year Plan in India was launched after the economic reforms of 1991?

Options :

- ✔ Eighth Five Year Plan
- ✘ Ninth Five Year Plan
- ✘ Tenth Five Year Plan
- ✘ Eleventh Five Year Plan

Question Number : 68 Question Id : 630680254774 Is Question Mandatory : No Calculator : None Response Time : N.A Think Time : N.A Minimum Instruction Time : 0

Correct Marks : 1

1991 ఆర్థిక సంస్కరణల తర్వాత భారతదేశంలో ఏ పంచవర్ష ప్రణాళిక ప్రారంభించబడింది?

Options :

- ✔ ఎనిమిదవ పంచవర్ష ప్రణాళిక
- ✘ తొమ్మిదవ పంచవర్ష ప్రణాళిక
- ✘ పదవ పంచవర్ష ప్రణాళిక
- ✘ పదకొండవ పంచవర్ష ప్రణాళిక

Question Number : 69 Question Id : 630680254775 Is Question Mandatory : No Calculator : None Response Time : N.A Think

Time : N.A Minimum Instruction Time : 0

Correct Marks : 1

Which of the following measures was taken by the Indian government to promote trade after the economic reforms of 1991?

Options :

- ✘ Imposing high tariffs on imported goods
- ✘ Allowing only state-owned companies to participate in trade
- ✔ Reducing tariffs on imported goods
- ✘ Banning imports of all non-essential goods

Question Number : 69 Question Id : 630680254775 Is Question Mandatory : No Calculator : None Response Time : N.A Think Time : N.A Minimum Instruction Time : 0

Correct Marks : 1

క్రింది వాటిలో 1991 ఆర్థిక సంస్కరణల తర్వాత వాణిజ్యాన్ని ప్రోత్సహించడానికి భారత ప్రభుత్వం తీసుకున్న చర్య ఏది?

Options :

- ✘ దిగుమతి చేసుకున్న వస్తువులపై అధిక సుంకాలు విధించడం
- ✘ వాణిజ్యంలో పాల్గొనడానికి ప్రభుత్వ యాజమాన్యంలోని కంపెనీలను మాత్రమే అనుమతించడం
- ✔ దిగుమతి చేసుకున్న వస్తువులపై సుంకాలను తగ్గించడం
- ✘ అన్ని అత్యవసరతర వస్తువుల దిగుమతులను నిషేధించడం

Question Number : 70 Question Id : 630680254776 Is Question Mandatory : No Calculator : None Response Time : N.A Think Time : N.A Minimum Instruction Time : 0

Correct Marks : 1

The Green Revolution in India refers to which of the following?

Options :

- ✘ The spread of environmental awareness in India
- ✔ The introduction of hybrid seeds and modern farming techniques in India
- ✘ The implementation of renewable energy sources in India
- ✘ The promotion of organic farming in India

Question Number : 70 Question Id : 630680254776 Is Question Mandatory : No Calculator : None Response Time : N.A Think Time : N.A Minimum Instruction Time : 0

Correct Marks : 1

భారతదేశంలో హరిత విప్లవం ఈ క్రింది వాటిలో దేనిని సూచిస్తుంది?

Options :

- ✘ భారతదేశంలో పర్యావరణ అవగాహన వ్యాప్తి
- ✔ భారతదేశంలో హైబ్రిడ్ విత్తనాలు మరియు ఆధునిక వ్యవసాయ పద్ధతుల పరిచయం
- ✘ భారతదేశంలో పునరుత్పాదక ఇంధన వనరుల అమలు
- ✘ భారతదేశంలో సేంద్రీయ వ్యవసాయాన్ని ప్రోత్సహించడం

Question Number : 71 Question Id : 630680254777 Is Question Mandatory : No Calculator : None Response Time : N.A Think Time : N.A Minimum Instruction Time : 0

Correct Marks : 1

Which of the following states in India were the first to adopt the Green Revolution?

Options :

- ✔ Punjab, Haryana and Uttar Pradesh
- ✘ Rajasthan, Gujarat, Madhya Pradesh
- ✘ Kerala, Karnataka, Uttar Pradesh
- ✘ Tamil Nadu, Assam, Andhra Pradesh

Question Number : 71 Question Id : 630680254777 Is Question Mandatory : No Calculator : None Response Time : N.A Think Time : N.A Minimum Instruction Time : 0

Correct Marks : 1

భారతదేశంలోని ఈ క్రింది రాష్ట్రాలలో హరిత విప్లవాన్ని మొదటిసారిగా ప్రారంభించినది ఏది?

Options :

- ✔ పంజాబ్, హర్యానా మరియు ఉత్తరప్రదేశ్
- ✘ రాజస్థాన్, గుజరాత్, మధ్యప్రదేశ్
- ✘ కేరళ, కర్ణాటక, ఉత్తరప్రదేశ్
- ✘ తమిళనాడు, అస్సాం, ఆంధ్రప్రదేశ్

Question Number : 72 Question Id : 630680254778 Is Question Mandatory : No Calculator : None Response Time : N.A Think Time : N.A Minimum Instruction Time : 0

Correct Marks : 1

Which of the following statements is true regarding the reservation policy in India?

Options :

- ✘ Reservation is based only on economic criteria
- ✔ Reservation is based on both economic and social criteria
- ✘ Reservation is not based on any criteria
- ✘ Reservation is based only on social criteria

Question Number : 72 Question Id : 630680254778 Is Question Mandatory : No Calculator : None Response Time : N.A Think Time : N.A Minimum Instruction Time : 0

Correct Marks : 1

భారతదేశంలో రిజర్వేషన్ విధానానికి సంబంధించి ఈ క్రింది ప్రకటనలలో నిజమైనది ఏది?

Options :

- ✘ రిజర్వేషన్ ఆర్థిక ప్రమాణాలపై మాత్రమే ఆధారపడి ఉంటుంది
- ✔ రిజర్వేషన్ ఆర్థిక మరియు సామాజిక వర్గంపై ఆధారపడి ఉంటుంది
- ✘ రిజర్వేషన్ ఏ ప్రమాణాల ఆధారంగా ఉండవు
- ✘ రిజర్వేషన్ అనేది సామాజిక ప్రమాణాలపై మాత్రమే ఆధారపడి ఉంటుంది

Question Number : 73 Question Id : 630680254779 Is Question Mandatory : No Calculator : None Response Time : N.A Think Time : N.A Minimum Instruction Time : 0

Correct Marks : 1

Which of the following schemes aims to provide healthcare services to economically weaker sections of society in India?

Options :

- ✘ Pradhan Mantri Jan Dhan Yojana
- ✔ Ayushman Bharat - Pradhan Mantri Jan Arogya Yojana
- ✘ Pradhan Mantri Fasal Bima Yojana
- ✘ Atal Pension Yojana

Question Number : 73 Question Id : 630680254779 Is Question Mandatory : No Calculator : None Response Time : N.A Think Time : N.A Minimum Instruction Time : 0

Correct Marks : 1

ఈ క్రింది పథకాలలో భారతదేశం సమాజంలోని ఆర్థికంగా బలహీన వర్గాలకు ఆరోగ్య సంరక్షణ సేవలను అందించడానికి ఉద్దేశించబడినది ఏది?

Options :

- ✘ ప్రధాన మంత్రి జన్ ధన్ యోజన
- ✔ ఆయుష్మాన్ భారత్ - ప్రధాన మంత్రి జన్ ఆరోగ్య యోజన
- ✘ ప్రధాన మంత్రి ఫసల్ బీమా యోజన
- ✘ అటల్ పెన్షన్ యోజన

Question Number : 74 Question Id : 630680254780 Is Question Mandatory : No Calculator : None Response Time : N.A Think Time : N.A Minimum Instruction Time : 0

Correct Marks : 1

In the Constitution of India, the Right to Education can be found under _____.

Options :

- ✘ Fundamental Rights
- ✘ Directive Principles
- ✔ Article 21A
- ✘ Fundamental Duties

Question Number : 74 Question Id : 630680254780 Is Question Mandatory : No Calculator : None Response Time : N.A Think Time : N.A Minimum Instruction Time : 0

Correct Marks : 1

భారత రాజ్యాంగంలో, విద్యా హక్కును _____ కింద చూడవచ్చు.

Options :

- ✘ ప్రాథమిక హక్కులు
- ✘ నిర్దేశక సూత్రాలు

- ✓ అధికరణం 21A
* ప్రాథమిక విధులు

Question Number : 75 Question Id : 630680254781 Is Question Mandatory : No Calculator : None Response Time : N.A Think Time : N.A Minimum Instruction Time : 0

Correct Marks : 1

According to the Rights of Persons with Disabilities Act, 2016, what percentage of government vacancies are reserved for persons with disabilities?

Options :

- * 1%
* 2%
✓ 4%
* 5%

Question Number : 75 Question Id : 630680254781 Is Question Mandatory : No Calculator : None Response Time : N.A Think Time : N.A Minimum Instruction Time : 0

Correct Marks : 1

వికలాంగుల హక్కుల చట్టం, 2016 ప్రకారం, వికలాంగులకు ఎంత శాతం ప్రభుత్వ ఖాళీలు రిజర్వ్ చేయబడ్డాయి?

Options :

- * 1%
* 2%
✓ 4%
* 5%

Question Number : 76 Question Id : 630680254782 Is Question Mandatory : No Calculator : None Response Time : N.A Think Time : N.A Minimum Instruction Time : 0

Correct Marks : 1

Into how many agro-climatic zones Telangana State is divided?

Options :

- * 3
✓ 4
* 5
* 6

Question Number : 76 Question Id : 630680254782 Is Question Mandatory : No Calculator : None Response Time : N.A Think Time : N.A Minimum Instruction Time : 0

Correct Marks : 1

తెలంగాణ రాష్ట్రం ఎన్ని వ్యవసాయ-వాతావరణ మండలాలుగా విభజించబడింది?

Options :

- * 3
✓ 4
* 5
* 6

Question Number : 77 Question Id : 630680254783 Is Question Mandatory : No Calculator : None Response Time : N.A Think Time : N.A Minimum Instruction Time : 0

Correct Marks : 1

How many basins are there in Telangana state?

Options :

- * 5
* 4
* 3
✓ 2

Question Number : 77 Question Id : 630680254783 Is Question Mandatory : No Calculator : None Response Time : N.A Think Time : N.A Minimum Instruction Time : 0

Correct Marks : 1

తెలంగాణ రాష్ట్రంలో పరీవాహక ప్రాంతాలు ఎన్ని ఉన్నాయి?

Options :

- * 5

✘ 4

✘ 3

✔ 2

Question Number : 78 Question Id : 630680254784 Is Question Mandatory : No Calculator : None Response Time : N.A Think Time : N.A Minimum Instruction Time : 0

Correct Marks : 1

Which of the following statement/s is / are CORRECT?

- (a) The pattern of drainage is generally Dendritic drainage pattern with wide valleys in the western pedi plain in Telangana state.
 (b) There are 4 basins and 12 sub-basins in Telangana state.

Options :

✔ Only (a)

✘ Only (b)

✘ Both (a) and (b)

✘ Neither (a) nor (b)

Question Number : 78 Question Id : 630680254784 Is Question Mandatory : No Calculator : None Response Time : N.A Think Time : N.A Minimum Instruction Time : 0

Correct Marks : 1

ఈ క్రింది ప్రకటన/ల్లో ఏది /ఏవి సరైనది/వి?

- (a) తెలంగాణ రాష్ట్రంలోని పశ్చిమ పర్వతసానువుల్లో విశాలమైన లోయలతో కనిపించే పారుదల నమూనా అనేది సాధారణంగా శాఖాయిత పారుదల నమూనా.
 (b) తెలంగాణ రాష్ట్రంలో 4 పరీవాహక ప్రాంతాలు మరియు 12 ఉప పరీవాహక ప్రాంతాలు ఉన్నాయి.

Options :

✔ (a) మాత్రమే

✘ (b) మాత్రమే

✘ (a) మరియు (b) లు రెండూ

✘ (a) లేదా (b) రెండూ కాదు

Question Number : 79 Question Id : 630680254785 Is Question Mandatory : No Calculator : None Response Time : N.A Think Time : N.A Minimum Instruction Time : 0

Correct Marks : 1

Which of the following statements are CORRECT?

- (a) Telangana is the Only State in entire Southern India with vast deposits of Coal
 (b) Bauxite Ore occurs in Adilabad District in Telangana.
 (c) Limestone Slabs occur in Vikarabad and Nalgonda Districts in Telangana.
 (d) Iron ore in Mahabubabad district in Telangana

Options :

✔ (a), (b) and (d)

✘ (c), (b) and (d)

✘ (a), (c) and (d)

✘ (a), (b) and (c)

Question Number : 79 Question Id : 630680254785 Is Question Mandatory : No Calculator : None Response Time : N.A Think Time : N.A Minimum Instruction Time : 0

Correct Marks : 1

ఈ క్రింది ప్రకటన/ల్లో ఏది/వి సరైనది/వి?

- (a) దక్షిణ భారతదేశంలో విస్తారమైన బొగ్గు నిక్షేపాలు కలిగిన ఏకైక రాష్ట్రం తెలంగాణ
 (b) బాక్సైట్ ఖనిజం తెలంగాణలోని ఆదిలాబాద్ జిల్లాలో లభిస్తుంది.
 (c) తెలంగాణలోని వికారాబాద్ మరియు నల్గొండ జిల్లాల్లో సున్నపురాయి పలకలు లభిస్తాయి.
 (d) తెలంగాణలోని మహబూబాబాద్ జిల్లాలో ఇనుప ఖనిజం కలదు

Options :

✔ (a), (b) మరియు (d)

✘ (c), (b) మరియు (d)

✘ (a), (c) మరియు (d)

✘ (a), (b) మరియు (c)

Question Number : 80 Question Id : 630680254786 Is Question Mandatory : No Calculator : None Response Time : N.A Think Time : N.A Minimum Instruction Time : 0

Correct Marks : 1

What is Telangana's total installed capacity from wind power as of 2022?

Options :

- * 108 megawatts
- * 118 megawatts
- ✓ 128 megawatts
- * 138 megawatts

Question Number : 80 Question Id : 630680254786 Is Question Mandatory : No Calculator : None Response Time : N.A Think Time : N.A Minimum Instruction Time : 0

Correct Marks : 1

2022 నాటికి తెలంగాణ యొక్క మొత్తం స్థాపిత పవన శక్తి సామర్థ్యం ఎంత?

Options :

- * 108 మెగావాట్లు
- * 118 మెగావాట్లు
- ✓ 128 మెగావాట్లు
- * 138 మెగావాట్లు

Question Number : 81 Question Id : 630680254787 Is Question Mandatory : No Calculator : None Response Time : N.A Think Time : N.A Minimum Instruction Time : 0

Correct Marks : 1

According to the data from the Central Electricity Authority (CEA), Telangana is ranked _____ in India in terms of total installed capacity of renewable energy as on September 2021.

Options :

- * sixth
- ✓ eighth
- * fourth
- * tenth

Question Number : 81 Question Id : 630680254787 Is Question Mandatory : No Calculator : None Response Time : N.A Think Time : N.A Minimum Instruction Time : 0

Correct Marks : 1

సెంట్రల్ ఎలక్ట్రిసిటీ అథారిటీ (CEA) యొక్క వివరాల ప్రకారం, సెప్టెంబర్ 2021 నాటికి పునరుత్పాదక శక్తి యొక్క మొత్తం స్థాపిత సామర్థ్యంలో తెలంగాణ భారతదేశంలోనే _____ స్థానంలో ఉంది.

Options :

- * ఆరవ
- ✓ ఎనిమిదవ
- * నాల్గవ
- * పదవ

Question Number : 82 Question Id : 630680254788 Is Question Mandatory : No Calculator : None Response Time : N.A Think Time : N.A Minimum Instruction Time : 0

Correct Marks : 1

Which of the following statement/s CORRECT?

- (a) Rajiv Gandhi International Airport was opened in Telangana state in 2014.
- (b) NH 16 in Telangana state passes through the important towns of Karimnagar, Adilabad and Nizamabad.

Options :

- * Only (a)
- ✓ Only (b)
- * Neither (a) nor (b)
- * Both (a) and (b)

Question Number : 82 Question Id : 630680254788 Is Question Mandatory : No Calculator : None Response Time : N.A Think Time : N.A Minimum Instruction Time : 0

Correct Marks : 1

ఈ క్రింది ప్రకటన / లో ఏది సరైనది/వి?

- (a) రాజీవ్ గాంధీ అంతర్జాతీయ విమానాశ్రయం 2014 లో తెలంగాణ రాష్ట్రంలో ప్రారంభించబడింది.
- (b) తెలంగాణ రాష్ట్రం గుండా వెళ్ళే NH 16 కరీంనగర్, ఆదిలాబాద్ మరియు నిజామాబాద్ వంటి ముఖ్యమైన పట్టణాల గుండా వెళుతుంది.

Options :

- * (a) మాత్రమే

✓ (b) మాత్రమే

* (a) కానీ మరియు (b) కానీ ఏదీ కాదు

* (a) మరియు (b) లు రెండూ

Question Number : 83 Question Id : 630680254789 Is Question Mandatory : No Calculator : None Response Time : N.A Think Time : N.A Minimum Instruction Time : 0

Correct Marks : 1

Which of the following is the additional official language of Telangana state?

Options :

✓ Urdu

* Tamil

* Kannada

* Hindi

Question Number : 83 Question Id : 630680254789 Is Question Mandatory : No Calculator : None Response Time : N.A Think Time : N.A Minimum Instruction Time : 0

Correct Marks : 1

ఈ క్రింది వాటిల్లో తెలంగాణ రాష్ట్రం యొక్క అదనపు అధికారిక భాష ఏది?

Options :

✓ ఉర్దూ

* తమిళం

* కన్నడ

* హిందీ

Question Number : 84 Question Id : 630680254790 Is Question Mandatory : No Calculator : None Response Time : N.A Think Time : N.A Minimum Instruction Time : 0

Correct Marks : 1

_____ is performed widely across Telangana which is similar to Yakshagana.

Options :

* Dhoom Dham

* Perini Sivatanavam

✓ Chindu Bhagavatham

* Golla Suddulu

Question Number : 84 Question Id : 630680254790 Is Question Mandatory : No Calculator : None Response Time : N.A Think Time : N.A Minimum Instruction Time : 0

Correct Marks : 1

యక్షగానాన్ని పోలి ఉండే _____ అనేది తెలంగాణ అంతటా విస్తృతంగా ప్రదర్శించబడుతుంది.

Options :

* ధూమ్ ధామ్

* పేరిణి శివతాండవం

✓ చిందు భాగవతం

* గొల్ల సుద్దులు

Question Number : 85 Question Id : 630680254791 Is Question Mandatory : No Calculator : None Response Time : N.A Think Time : N.A Minimum Instruction Time : 0

Correct Marks : 1

_____ is also known as bell metal craft and is widely seen in Jainoor Mandal, Ushegaon and Chittalbori in Adilabad district.

Options :

* Banjara

* Rangam

* Ghattam

✓ Dhokra

Question Number : 85 Question Id : 630680254791 Is Question Mandatory : No Calculator : None Response Time : N.A Think Time : N.A Minimum Instruction Time : 0

Correct Marks : 1

ఆదిలాబాద్ జిల్లాలోని జైనుర్ మండలం, ఉషేగావ్ మరియు చిత్తల్బోరిలో విస్తృతంగా కనిపించే _____ ని బెల్ మెటల్ క్రాఫ్ట్ అని కూడా పిలుస్తారు.

Options :

- * బంజారా
- * రంగం
- * ఘట్టం
- ✓ దోక్తా

Question Number : 86 Question Id : 630680254792 Is Question Mandatory : No Calculator : None Response Time : N.A Think Time : N.A Minimum Instruction Time : 0

Correct Marks : 1

_____ is a Hindu Festival, celebrated during the Telugu month of Ashadam.

Options :

- * Dussehra
- ✓ Bonalu
- * Ram Navami
- * Holi

Question Number : 86 Question Id : 630680254792 Is Question Mandatory : No Calculator : None Response Time : N.A Think Time : N.A Minimum Instruction Time : 0

Correct Marks : 1

_____ అనే హిందూ పండుగ తెలుగు నెలైన ఆషాఢంలో జరుపబడుతుంది.

Options :

- * దసరా
- ✓ బోనాలు
- * రామ నవమి
- * హోలీ

Question Number : 87 Question Id : 630680254793 Is Question Mandatory : No Calculator : None Response Time : N.A Think Time : N.A Minimum Instruction Time : 0

Correct Marks : 1

Which of the following statements are CORRECT?

- (a) Dhokra or Dokra is also known as bell metal craft
- (b) Bidri Craft is the unique art of silver is engraved on metal.
- (c) The renowned Nirmal oil paintings use natural dyes for depicting themes from the epics.
- (d) Telangana is famous world-wide for its amazing Copper castings

Options :

- * (a), (b) and (d)
- * (a), (c) and (d)
- * (b), (c) and (d)
- ✓ (a), (b) and (c)

Question Number : 87 Question Id : 630680254793 Is Question Mandatory : No Calculator : None Response Time : N.A Think Time : N.A Minimum Instruction Time : 0

Correct Marks : 1

ఈ క్రింది ప్రకటనల్లో ఏది/వి సరైనది/వి?

- (a) ధోక్తా లేదా డోక్తాను బెల్ మెటల్ క్రాఫ్ట్ అని కూడా పిలుస్తారు
- (b) బిద్రి క్రాఫ్ట్ అనేది లోహంపై వెండితో చెక్కబడే ఒక ప్రత్యేకమైన కళ.
- (c) ప్రఖ్యాత నిర్మల్ ఆయిల్ పెయింటింగుల్లో ఇతిహాసాల నుండి ఇతివృత్తాలను వర్ణించడానికి సహజ రంగులు ఉపయోగించబడతాయి.
- (d) అద్భుతమైన రాగి పోతలకి తెలంగాణ ప్రపంచవ్యాప్తంగా ప్రసిద్ధి చెందింది

Options :

- * (a), (b) మరియు (d)
- * (a), (c) మరియు (d)
- * (b), (c) మరియు (d)
- ✓ (a), (b) మరియు (c)

Question Number : 88 Question Id : 630680254794 Is Question Mandatory : No Calculator : None Response Time : N.A Think Time : N.A Minimum Instruction Time : 0

Correct Marks : 1

Which of the following pairs is INCORRECTLY matched?

Options :

- ✘ Bathukamma Festival - celebrated by womenfolk
- ✘ Vijayadashami Festival - also known as Dussehra
- ✘ Bonalu Festival - celebrated during Ashadam month
- ✔ Sankranthi Festival - also called as 'peerla panduga'

Question Number : 88 Question Id : 630680254794 Is Question Mandatory : No Calculator : None Response Time : N.A Think Time : N.A Minimum Instruction Time : 0

Correct Marks : 1

ఈ క్రింది జతలలో ఏది సరిగా జతపరచబడలేదు?

Options :

- ✘ బతుకమ్మ పండుగ - మహిళలు జరుపుకుంటారు
- ✘ విజయదశమి పండుగ - దీనిని దసరా అని కూడా అంటారు
- ✘ బోనాల పండుగ - ఆషాఢమాసంలో జరుపుకుంటారు
- ✔ సంక్రాంతి పండుగ - దీనిని 'పీర్ల పండుగ' అని కూడా అంటారు.

Question Number : 89 Question Id : 630680254795 Is Question Mandatory : No Calculator : None Response Time : N.A Think Time : N.A Minimum Instruction Time : 0

Correct Marks : 1

Which of the following is CORRECTLY matched?

Options :

Fort	District
Golconda	Karimnagar
Bhongir	Yadadri
Elgandal	Hyderabad

✘

Fort	District
Golconda	Hyderabad
Bhongir	Yadadri
Elgandal	Karimnagar

✔

Fort	District
Golconda	Hyderabad
Bhongir	Karimnagar
Elgandal	Yadadri

✘

Fort	District
Golconda	Yadadri
Bhongir	Hyderabad
Elgandal	Karimnagar

✘

Question Number : 89 Question Id : 630680254795 Is Question Mandatory : No Calculator : None Response Time : N.A Think Time : N.A Minimum Instruction Time : 0

Correct Marks : 1

ఈ క్రింది వాటిల్లో ఏది సరిగ్గా జతపరచబడింది?

Options :

కోట	జిల్లా
గోల్కొండ	కరీంనగర్
ఝవనగిరి	యాదాద్రి
ఎల్లండల్	హైదరాబాద్

✘

కోట	జిల్లా
గోల్కొండ	హైదరాబాద్
ఝవనగిరి	యాదాద్రి
ఎల్లండల్	కరీంనగర్

✔

కోట	జిల్లా
గోల్కొండ	హైదరాబాద్
ఝవనగిరి	కరీంనగర్
ఎల్లండల్	యాదాద్రి

✘

కోట	జిల్లా
గోల్కొండ	యాదాద్రి
ఝవనగిరి	హైదరాబాద్
ఎల్లండల్	కరీంనగర్

✘

Question Number : 90 Question Id : 630680254796 Is Question Mandatory : No Calculator : None Response Time : N.A Think Time : N.A Minimum Instruction Time : 0

Correct Marks : 1

Arrange the following in the increasing order of year of completion / establishment

- Construction of Charminar was completed.
- Construction of Secunderabad Railway station was completed.
- Salar Jung Museum was established in Hyderabad
- The Arya Samaj was established in Hyderabad

Options :

✘ (a), (c), (d) and (b)

✔ (a), (b), (d) and (c)

✘ (b), (c), (d) and (a)

✘ (c), (a), (d) and (b)

Question Number : 90 Question Id : 630680254796 Is Question Mandatory : No Calculator : None Response Time : N.A Think

Time : N.A Minimum Instruction Time : 0

Correct Marks : 1

పూర్తయిన / స్థాపించబడిన సంవత్సరం యొక్క పెరిగే క్రమంలో ఈ క్రింది వాటిని అమర్చండి

- (a) చార్మినార్ నిర్మాణం పూర్తయింది.
 (b) సికింద్రాబాద్ రైల్వే స్టేషన్ నిర్మాణం పూర్తయింది.
 (c) హైదరాబాద్ లో సాలార్ జంగ్ మ్యూజియం స్థాపించబడింది
 (d) హైదరాబాద్ లో ఆర్యసమాజ్ స్థాపించబడింది

Options :

- ✘ (a), (c), (d) మరియు (b)
 ✔ (a), (b), (d) మరియు (c)
 ✘ (b), (c), (d) మరియు (a)
 ✘ (c), (a), (d) మరియు (b)

Question Number : 91 Question Id : 630680254797 Is Question Mandatory : No Calculator : None Response Time : N.A Think Time : N.A Minimum Instruction Time : 0

Correct Marks : 1

In which year Arogya Lakshmi scheme was launched in Telangana?

Options :

- ✘ 2014
 ✔ 2015
 ✘ 2016
 ✘ 2017

Question Number : 91 Question Id : 630680254797 Is Question Mandatory : No Calculator : None Response Time : N.A Think Time : N.A Minimum Instruction Time : 0

Correct Marks : 1

తెలంగాణలో ఆరోగ్యలక్ష్మి పథకాన్ని ఏ సంవత్సరంలో ప్రారంభించారు?

Options :

- ✘ 2014
 ✔ 2015
 ✘ 2016
 ✘ 2017

Question Number : 92 Question Id : 630680254798 Is Question Mandatory : No Calculator : None Response Time : N.A Think Time : N.A Minimum Instruction Time : 0

Correct Marks : 1

Which of the following statement/s is / are CORRECT?

- (a) In the year 1942, during the regime of Nizam, excavations were taken up in Karimnagar, Nalgonda District and discovered the historical evidences such as the signs of Buddhism, coins, utensils etc
 (b) Kotilingala in Karimnagar district was the capital city for Shatavahana dynasty. During the year 1970-74, excavations were held in Kotilingala and Doolikatta and uncovered a lot of historical evidences and archeological monuments.

Options :

- ✘ Only (a)
 ✔ Only (b)
 ✘ Both (a) and (b)
 ✘ Neither (a) nor (b)

Question Number : 92 Question Id : 630680254798 Is Question Mandatory : No Calculator : None Response Time : N.A Think Time : N.A Minimum Instruction Time : 0

Correct Marks : 1

ఈ క్రింది ప్రకటన / ల్లో ఏది / వి సరైనది / వి?

- (a) 1942లో, నిజాం హయాంలో, నల్గొండ, కరీంనగర్ జిల్లాలో జరుపబడిన తవ్వకాలలో బౌద్ధమతానికి సంబంధించిన చిహ్నాలు, నాణేలు, పాత్రలు మొదలైన చారిత్రక ఆధారాలను కనుగొన్నారు.
 (b) కరీంనగర్ జిల్లాలోని కోటిలింగాల శాతవాహన వంశానికి రాజధాని నగరం. 1970-74 సంవత్సరంలో కోటిలింగాల, దూళికట్టలలో జరిపిన తవ్వకాల్లో ఎన్నో చారిత్రక ఆధారాలు, పురావస్తు కట్టడాలు బయటపడ్డాయి.

Options :

- ✘ (a) మాత్రమే
 ✔ (b) మాత్రమే
 ✘ (a) మరియు (b) లు రెండూ
 ✘ (a) కానీ మరియు (b) కానీ ఏదీ కాదు

Question Number : 93 Question Id : 630680254799 Is Question Mandatory : No Calculator : None Response Time : N.A Think Time : N.A Minimum Instruction Time : 0

Correct Marks : 1

Which of the following statement/s is / are CORRECT?

- (a) The Buddhist texts and the chronicles of Megasthenese, who visited India in the 5th century BCE, referred to the existence of many fortified towns in Telangana.
 (b) Telangana has an iconic saree weaving cluster at Pochampalli, Nalgonda District
 (c) During the medieval era, Telugu literature benefitted from the patronage provided by Quli Qutb Shah, the founder of the Qutb Shahi dynasty

Options :

- ✓ (b) and (c)
 ✗ (a) and (c)
 ✗ Only (c)
 ✗ Only (a)

Question Number : 93 Question Id : 630680254799 Is Question Mandatory : No Calculator : None Response Time : N.A Think Time : N.A Minimum Instruction Time : 0

Correct Marks : 1

ఈ క్రింది ప్రకటన/ల్లో ఏది /వి సరైనది /వి?

- (a) బౌద్ధుల గ్రంథాలు మరియు 5వ శతాబ్దం BCEలో భారతదేశాన్ని సందర్శించిన మెగస్తనీస్ యొక్క వృత్తాంతాలు, తెలంగాణలో అనేక కోట పట్టణాల ఉనికిని సూచిస్తున్నాయి.
 (b) తెలంగాణకు చెందిన నల్గొండ జిల్లాలోని పోచంపల్లిలో విశిష్టమైన చీర నేతకీ చెందిన సమూహం ఉంది
 (c) మధ్యయుగంలో, కుతుబ్ షాహీ రాజవంశ స్థాపకుడైన కులీ కుతుబ్ షా అందించిన ప్రోత్సాహంతో తెలుగు సాహిత్యం ప్రయోజనం పొందింది.

Options :

- ✓ (b) మరియు (c)
 ✗ (a) మరియు (c)
 ✗ (c) మాత్రమే
 ✗ (a) మాత్రమే

Question Number : 94 Question Id : 630680254800 Is Question Mandatory : No Calculator : None Response Time : N.A Think Time : N.A Minimum Instruction Time : 0

Correct Marks : 1

Arrange the following in Chronological Order based on the year of establishment.

- (a) Andhra Samvardhini Library was established
 (b) A magazine Andhra Sahitya Parishat was started
 (c) Osmania Arts College was established
 (d) Salar Jung Museum was established

Options :

- ✗ (b), (a), (d) and (c)
 ✗ (a), (b), (d) and (c)
 ✓ (a), (b), (c) and (d)
 ✗ (d), (b), (a) and (c)

Question Number : 94 Question Id : 630680254800 Is Question Mandatory : No Calculator : None Response Time : N.A Think Time : N.A Minimum Instruction Time : 0

Correct Marks : 1

స్థాపించబడిన సంవత్సరం ఆధారంగా ఈ క్రింది వాటిని కాలక్రమానుసారంగా అమర్చండి.

- (a) ఆంధ్ర సంవర్ధిని అనే గ్రంథాలయం స్థాపించబడింది
 (b) ఆంధ్ర సాహిత్య పరిషత్ అనే పత్రిక ప్రారంభించబడింది
 (c) ఉస్మానియా ఆర్ట్స్ కళాశాల స్థాపించబడింది
 (d) సాలార్ జంగ్ మ్యూజియం స్థాపించబడింది

Options :

- ✗ (b), (a), (d) మరియు (c)
 ✗ (a), (b), (d) మరియు (c)
 ✓ (a), (b), (c) మరియు (d)
 ✗ (d), (b), (a) మరియు (c)

Question Number : 95 Question Id : 630680254801 Is Question Mandatory : No Calculator : None Response Time : N.A Think

Time : N.A Minimum Instruction Time : 0

Correct Marks : 1

Which of the following is CORRECTLY matched?

Options :

Writer	Work/Novel
Puttaparthi Narayanacharya	Desa Charitralu
Srirangam Srinivasarao	Penugonda Lakshmi
Vasireddy Seethadevi	Mattimanishi

✘

Writer	Work/Novel
Puttaparthi Narayanacharya	Penugonda Lakshmi
Srirangam Srinivasarao	Desa Charitralu
Vasireddy Seethadevi	Mattimanishi

✔

Writer	Work/Novel
Puttaparthi Narayanacharya	Mattimanishi
Srirangam Srinivasarao	Desa Charitralu
Vasireddy Seethadevi	Penugonda Lakshmi

✘

Writer	Work/Novel
Puttaparthi Narayanacharya	Penugonda Lakshmi
Srirangam Srinivasarao	Mattimanishi
Vasireddy Seethadevi	Desa Charitralu

✘

Question Number : 95 Question Id : 630680254801 Is Question Mandatory : No Calculator : None Response Time : N.A Think Time : N.A Minimum Instruction Time : 0

Correct Marks : 1

ఈ క్రింది వాటిల్లో ఏది సరిగ్గా జతపరచబడింది?

Options :

రచయిత	రచన/ నవల
పుట్టపర్తి నారాయణాచార్య	దేశ చరిత్రలు
శ్రీరంగం శ్రీనివాసరావు	పెనుగొండ లక్ష్మి
వాసిరెడ్డి సీతాదేవి	మట్టిమనిషి

✘

రచయిత	రచన/నవల
పుట్టపర్తి నారాయణాచార్య	పెనుగొండ లక్ష్మి
శ్రీరంగం శ్రీనివాసరావు	దేశ చరిత్రలు
వాసిరెడ్డి సీతాదేవి	మట్టిమనిషి

✔

రచయిత	రచన/నవల
పుట్టపర్తి నారాయణాచార్య	మట్టిమనిషి
శ్రీరంగం శ్రీనివాసరావు	దేశ చరిత్రలు
వాసిరెడ్డి సీతాదేవి	పెనుగొండ లక్ష్మి

✘

రచయిత	రచన/నవల
పుట్టపర్తి నారాయణాచార్య	పెనుగొండ లక్ష్మి
శ్రీరంగం శ్రీనివాసరావు	మట్టిమనిషి
వాసిరెడ్డి సీతాదేవి	దేశ చరిత్రలు

✘

Question Number : 96 Question Id : 630680254802 Is Question Mandatory : No Calculator : None Response Time : N.A Think Time : N.A Minimum Instruction Time : 0

Correct Marks : 1

Which of the following pairs is CORRECTLY matched?

Options :

- ✘ Koilkonda Fort --- Nalgonda district
- ✘ Chaya Someswara Temple ---Mahabubnagar district
- ✘ Ramappa Temple --- Hyderabad district
- ✓ Domakonda Fort ---- Kamareddy district

Question Number : 96 Question Id : 630680254802 Is Question Mandatory : No Calculator : None Response Time : N.A Think Time : N.A Minimum Instruction Time : 0

Correct Marks : 1

ఈ క్రింది జతలలో ఏది సరిగ్గా జతపరచబడింది?

Options :

- ✘ కోయిల్కొండ కోట --- నల్గొండ జిల్లా
- ✘ ఛాయా సోమేశ్వరాలయం --- మహబూబ్ నగర్ జిల్లా
- ✘ రామప్ప దేవాలయం --- హైదరాబాద్ జిల్లా
- ✓ దోమకొండ కోట ---- కామారెడ్డి జిల్లా

Question Number : 97 Question Id : 630680254803 Is Question Mandatory : No Calculator : None Response Time : N.A Think Time : N.A Minimum Instruction Time : 0

Correct Marks : 1

As per Aarogyasri the benefit on family is on floater basis i.e., the total reimbursement of _____ can be availed of individually or collectively by members of the family.

Options :

- ✘ Rs.1.00 lakhs
- ✘ Rs.1.25 lakhs
- ✓ Rs.1.50 lakhs
- ✘ Rs.2.00 lakhs

Question Number : 97 Question Id : 630680254803 Is Question Mandatory : No Calculator : None Response Time : N.A Think Time : N.A Minimum Instruction Time : 0

Correct Marks : 1

ఆరోగ్యశ్రీ ప్రకారం కుటుంబానికి ఫ్లోటర్ ప్రాతిపదికన ప్రయోజనం ఉంటుంది అంటే, కుటుంబ సభ్యులు వ్యక్తిగతంగా లేదా సమిష్టిగా _____ మొత్తం రీయింబర్స్మెంట్ను పొందవచ్చు.

Options :

- ✘ రూ.1.00 లక్షలు
- ✘ రూ.1.25 లక్షలు
- ✓ రూ. 1.50 లక్షలు
- ✘ రూ. 2.00 లక్షలు

Question Number : 98 Question Id : 630680254804 Is Question Mandatory : No Calculator : None Response Time : N.A Think Time : N.A Minimum Instruction Time : 0

Correct Marks : 1

In which district of Telangana Regional Science Centre is located?

Options :

- Hyderabad
- Warangal
- Nalgonda
- Nizamabad

Question Number : 98 Question Id : 630680254804 Is Question Mandatory : No Calculator : None Response Time : N.A Think Time : N.A Minimum Instruction Time : 0

Correct Marks : 1

తెలంగాణలో ప్రాంతీయ విజ్ఞాన కేంద్రం ఏ జిల్లాలో ఉంది?

Options :

- హైదరాబాద్
- వరంగల్
- నల్గొండ
- నిజామాబాద్

Question Number : 99 Question Id : 630680254805 Is Question Mandatory : No Calculator : None Response Time : N.A Think Time : N.A Minimum Instruction Time : 0

Correct Marks : 1

In which year the States Reorganization Commission (SRC) submitted its report and recommended formation of Telangana state?

Options :

- 1950
- 1953
- 1955
- 1958

Question Number : 99 Question Id : 630680254805 Is Question Mandatory : No Calculator : None Response Time : N.A Think Time : N.A Minimum Instruction Time : 0

Correct Marks : 1

ఏ సంవత్సరంలో రాష్ట్రాల పునర్వ్యవస్థీకరణ కమిషన్ (SRC) తన నివేదికను సమర్పించి తెలంగాణ రాష్ట్ర ఏర్పాటుకు సిఫారసు చేసింది?

Options :

- 1950
- 1953
- 1955
- 1958

Question Number : 100 Question Id : 630680254806 Is Question Mandatory : No Calculator : None Response Time : N.A Think Time : N.A Minimum Instruction Time : 0

Correct Marks : 1

In which year students intensified the protests for a separate Telangana state?

Options :

- 1964
- 1965
- 1969
- 1972

Question Number : 100 Question Id : 630680254806 Is Question Mandatory : No Calculator : None Response Time : N.A Think Time : N.A Minimum Instruction Time : 0

Correct Marks : 1

ప్రత్యేక తెలంగాణ రాష్ట్రం కోసం విద్యార్థులు ఏ సంవత్సరంలో తమ నిరసనలు తీవ్రతరం చేశారు?

Options :

- 1964
- 1965
- 1969
- 1972

Question Number : 101 Question Id : 630680254807 Is Question Mandatory : No Calculator : None Response Time : N.A Think Time : N.A Minimum Instruction Time : 0

Correct Marks : 1

On which date in 1969, all party accord was reached to ensure the proper implementation of Telangana safeguards?

Options :

- ✓ 19th January
- ✗ 19th February
- ✗ 9th July
- ✗ 9th June

Question Number : 101 Question Id : 630680254807 Is Question Mandatory : No Calculator : None Response Time : N.A Think Time : N.A Minimum Instruction Time : 0

Correct Marks : 1

1969లో ఏ తేదీన, తెలంగాణా భద్రతలను సక్రమంగా అమలు చేసేందుకు అన్ని పార్టీల ఒప్పందం కుదిరింది?

Options :

- ✓ జనవరి 19
- ✗ ఫిబ్రవరి 19
- ✗ జూలై 9
- ✗ జూన్ 9

Question Number : 102 Question Id : 630680254808 Is Question Mandatory : No Calculator : None Response Time : N.A Think Time : N.A Minimum Instruction Time : 0

Correct Marks : 1

Which of the following statement/s is / are CORRECT?

- (a) Sri Lakshmi Narasimha Swamy Temple, Yadadri is termed as 'Dakshina Kasi' (Southern Banaras).
- (b) Charminar was built as a ceremonial gateway to celebrate the foundation of Hyderabad at the end of the 17th century.

Options :

- ✗ Only (a)
- ✗ Only (b)
- ✗ Both (a) and (b)
- ✓ Neither (a) nor (b)

Question Number : 102 Question Id : 630680254808 Is Question Mandatory : No Calculator : None Response Time : N.A Think Time : N.A Minimum Instruction Time : 0

Correct Marks : 1

ఈ క్రింది ప్రకటన/ లో ఏది /వి సరైనది /వి?

- (a) యాదాద్రిలోని శ్రీ లక్ష్మీ నరసింహ స్వామి దేవాలయాన్ని 'దక్షిణ కాశి' (దక్షిణ బనారస్) అని పిలుస్తారు.
- (b) 17వ శతాబ్దం చివరలో హైదరాబాద్ శంకుస్థాపనను జరుపుకోవడానికి చార్మినార్ ఒక ఉత్సవ ద్వారం వలె నిర్మించబడింది.

Options :

- ✗ మాత్రమే (a)
- ✗ మాత్రమే (b)
- ✗ (a) మరియు (b) లు రెండూ
- ✓ (a) కానీ మరియు (b) కానీ ఏదీ కాదు

Question Number : 103 Question Id : 630680254809 Is Question Mandatory : No Calculator : None Response Time : N.A Think Time : N.A Minimum Instruction Time : 0

Correct Marks : 1

Which of the following pairs is CORRECT?

Options :

- ✗ On Nov 29th, 2008 -- Kalvakuntla Chandrashekar Raohad announced an indefinite hunger strike
- ✗ In July 2012 -- UPA government started the Telangana statehood process
- ✗ In April 2009 ---TRS party MLAs resigned
- ✓ On May 17th 2001---launch of Telangana Rashtra Samithi.

Question Number : 103 Question Id : 630680254809 Is Question Mandatory : No Calculator : None Response Time : N.A Think Time : N.A Minimum Instruction Time : 0

Correct Marks : 1

ఈ క్రింది జతలలో ఏది సరైనది?

Options :

- * నవంబర్ 29, 2008న -- కల్వకుంట్ల చంద్రశేఖర్ రావు ఆమరణ నిరాహార దీక్షను ప్రకటించారు.
- * జూలై 2012లో -- తెలంగాణ రాష్ట్ర ఏర్పాటు ప్రక్రియను UPA ప్రభుత్వం ప్రారంభించింది
- * ఏప్రిల్ 2009లో ---TRS పార్టీ ఎమ్మెల్యేలు రాజీనామా చేశారు
- ✓ మే 17, 2001న---తెలంగాణ రాష్ట్ర సమితి ప్రారంభం.

Question Number : 104 Question Id : 630680254810 Is Question Mandatory : No Calculator : None Response Time : N.A Think Time : N.A Minimum Instruction Time : 0

Correct Marks : 1

Which of the following statements are CORRECT?

- (a) In 1953 the Indian government appointed the States Reorganization Commission (SRC) to look into various statehood demands in the country.
- (b) The SRC Commission submitted its report on 30th December 1956, and recommended formation of Telangana state.
- (c) During the period between 1955 September and 1956 November, the people of Telangana launched a series of protests demanding statehood by implementing the SRC recommendations.
- (d) Sri M. Chenna Reddy, founded the Telangana Praja Samithi (TPS) political party in 1969 to spearhead the statehood movement.

Options :

- * (b), (c) and (d)
- * (a), (b) and (d)
- ✓ (a), (c) and (d)
- * (a), (b) and (c)

Question Number : 104 Question Id : 630680254810 Is Question Mandatory : No Calculator : None Response Time : N.A Think Time : N.A Minimum Instruction Time : 0

Correct Marks : 1

ఈ క్రింది ప్రకటనల్లో ఏది/వి సరైనది/వి?

- (a) 1953లో భారత ప్రభుత్వం చేశంలోని వివిధ రాష్ట్రాల డిమాండ్లను పరిశీలించడానికి రాష్ట్రాల పునర్వ్యవస్థీకరణ కమిషన్ (SRC)ని నియమించింది.
- (b) SRC కమిషన్ 30 డిసెంబర్ 1956న తన నివేదికను సమర్పిస్తూ, తెలంగాణ రాష్ట్ర ఏర్పాటుకు సిఫారసు చేసింది.
- (c) 1955 సెప్టెంబరు మరియు 1956 నవంబర్ ల మధ్య కాలంలో, తెలంగాణ ప్రజలు SRC సిఫార్సులను అమలు చేయడం ద్వారా రాష్ట్ర హోదాను డిమాండ్ చేస్తూ నిరసనల పరంపరను ప్రారంభించారు.
- (d) శ్రీ ఎం. చెన్నా రెడ్డి 1969లో రాష్ట్ర సాధన ఉద్యమానికి నాయకత్వం వహించేందుకు తెలంగాణ ప్రజా సమితి (టిపిఎస్) అనే రాజకీయ పార్టీని స్థాపించారు.

Options :

- * (b), (c) మరియు (d)
- * (a), (b) మరియు (d)
- ✓ (a), (c) మరియు (d)
- * (a), (b) మరియు (c)

Question Number : 105 Question Id : 630680254811 Is Question Mandatory : No Calculator : None Response Time : N.A Think Time : N.A Minimum Instruction Time : 0

Correct Marks : 1

_____ is NOT a tributary of Godavari River.

Options :

- * Manjira
- * Vagu
- * Pranahita
- ✓ Musi

Question Number : 105 Question Id : 630680254811 Is Question Mandatory : No Calculator : None Response Time : N.A Think Time : N.A Minimum Instruction Time : 0

Correct Marks : 1

_____ అనేది గోదావరి నదికి ఉపనది కాదు.

Options :

- * మంజీర
- * వాగు
- * ప్రాణహిత
- ✓ మూసీ

Question Number : 106 Question Id : 630680254812 Is Question Mandatory : No Calculator : None Response Time : N.A Think Time : N.A Minimum Instruction Time : 0

Correct Marks : 1

Which of the following statements are CORRECT?

- (a) Banjara Needle Crafts is a form of embroidery and mirror work on fabrics employing the needlecraft.
 (b) Dokra Metal Crafts Also known as bell metal craft; widely seen in Medak district.
 (c) Chindu Bhagavatham is performed widely across Telangana. It is similar to Yakshagana

Options :

- ✘ (a) and (b)
 ✘ (b) and (c)
 ✔ (a) and (c)
 ✘ (a), (b) and (c)

Question Number : 106 Question Id : 630680254812 Is Question Mandatory : No Calculator : None Response Time : N.A Think Time : N.A Minimum Instruction Time : 0

Correct Marks : 1

ఈ క్రింది ప్రకటనల్లో ఏది/వి సరైనది/వి?

- (a) బంజారా సూది హస్త కళలు అనేది సూదిని ఉపయోగించి చేతితో బట్టలపై చేసే బుశేదారీ మరియు అద్దం పనులని చేసే ఒక కుట్టుపని రూపం.
 (b) డోక్రా మెటల్ క్రాఫ్ట్ను బెల్ మెటల్ క్రాఫ్ట్ అని కూడా పిలుస్తారు; ఇది మెదక్ జిల్లాలో విస్తృతంగా కనిపిస్తుంది.
 (c) చిందు భాగవతం తెలంగాణ అంతటా విస్తృతంగా ప్రదర్శించబడుతుంది. ఇది యక్షగానాన్ని పోలి ఉంటుంది

Options :

- ✘ (a) మరియు (b)
 ✘ (b) మరియు (c)
 ✔ (a) మరియు (c)
 ✘ (a), (b) మరియు (c)

Question Number : 107 Question Id : 630680254813 Is Question Mandatory : No Calculator : None Response Time : N.A Think Time : N.A Minimum Instruction Time : 0

Correct Marks : 1

Which of the following statements are CORRECT?

- (a) KCR Nutrition Kit was launched by Health Minister T. Harish Rao at Kamareddy on 31st December 2021.
 (b) Mana ooru - Mana badi was launched on 8th March 2022
 (c) Dalit Bandhu scheme provides an one-time grant of Rs. 10,00,000/- to the beneficiaries thereby instilling a sense of financial security and hope for a better future.

Options :

- ✘ (a) and (b)
 ✔ (b) and (c)
 ✘ (a) and (c)
 ✘ (a), (b) and (c)

Question Number : 107 Question Id : 630680254813 Is Question Mandatory : No Calculator : None Response Time : N.A Think Time : N.A Minimum Instruction Time : 0

Correct Marks : 1

ఈ క్రింది ప్రకటనల్లో ఏది/వి సరైనది/వి?

- (a) 31 డిసెంబర్ 2021న కామారెడ్డిలో ఆరోగ్య శాఖా మంత్రి టి. హరీష్ రావు కేసీఆర్ న్యూట్రీషన్ కిట్ను ప్రారంభించారు.
 (b) 8 మార్చి 2022న మన ఊరు - మన బడి ప్రారంభించబడింది
 (c) దళిత బంధు పథకం లబ్ధిదారులకు రు. 10,00,000/-ల ఏక-సమయ మంజూరును అందిస్తుంది, తద్వారా వారికి ఆర్థిక భద్రత మరియు మంచి భవిష్యత్తుపై భరోసాను కలిగిస్తుంది.

Options :

- ✘ (a) మరియు (b)
 ✔ (b) మరియు (c)
 ✘ (a) మరియు (c)
 ✘ (a), (b) మరియు (c)

Question Number : 108 Question Id : 630680254814 Is Question Mandatory : No Calculator : None Response Time : N.A Think Time : N.A Minimum Instruction Time : 0

Correct Marks : 1

In which year the Telangana government has launched Telangana Industrial Project Approval and Self-Certification System (TS-iPASS)?

Options :

- ✘ 2012

- ✘ 2013
- ✔ 2014
- ✘ 2015

Question Number : 108 Question Id : 630680254814 Is Question Mandatory : No Calculator : None Response Time : N.A Think Time : N.A Minimum Instruction Time : 0

Correct Marks : 1

తెలంగాణ ప్రభుత్వం తెలంగాణ ఇండస్ట్రియల్ ప్రాజెక్ట్ అవూవల్ మరియు సెల్స్ సర్టిఫికేషన్ సిస్టమ్ (TS-iPASS)ని ఏ సంవత్సరంలో ప్రారంభించింది?

Options :

- ✘ 2012
- ✘ 2013
- ✔ 2014
- ✘ 2015

Question Number : 109 Question Id : 630680254815 Is Question Mandatory : No Calculator : None Response Time : N.A Think Time : N.A Minimum Instruction Time : 0

Correct Marks : 1

Telangana has been ranked _____ in the country in the Sustainable Development Goals (SDG) Index India for the year 2020-2021.

Options :

- ✘ fifth
- ✔ sixth
- ✘ seventh
- ✘ fourth

Question Number : 109 Question Id : 630680254815 Is Question Mandatory : No Calculator : None Response Time : N.A Think Time : N.A Minimum Instruction Time : 0

Correct Marks : 1

2020-2021 సంవత్సరానికి గాను సస్టెయినబుల్ డెవలప్ మెంట్ గోల్స్ (SDG) ఇండెక్స్ ఇండియాల్ తెలంగాణ దేశంలో _____ ర్యాంక్ ను పొందింది.

Options :

- ✘ అయిదవ
- ✔ ఆరవ
- ✘ ఏడవ
- ✘ నాలుగవ

Question Number : 110 Question Id : 630680254816 Is Question Mandatory : No Calculator : None Response Time : N.A Think Time : N.A Minimum Instruction Time : 0

Correct Marks : 1

The Telangana state was inaugurated formally on _____ 2014.

Options :

- ✔ June 2nd
- ✘ June 5th
- ✘ June 7th
- ✘ June 9th

Question Number : 110 Question Id : 630680254816 Is Question Mandatory : No Calculator : None Response Time : N.A Think Time : N.A Minimum Instruction Time : 0

Correct Marks : 1

తెలంగాణ రాష్ట్రం అధికారికంగా _____ 2014న ఆవిర్భవించింది.

Options :

- ✔ జూన్ 2
- ✘ జూన్ 5
- ✘ జూన్ 7
- ✘ జూన్ 9

Question Number : 111 Question Id : 630680254817 Is Question Mandatory : No Calculator : None Response Time : N.A Think Time : N.A Minimum Instruction Time : 0

Correct Marks : 1

Ramappa Temple is a historical temple situated in the _____ of Telangana.

Options :

- Hyderabad district
- Mulugu district
- Nalgonda district
- Nizamabad district

Question Number : 111 Question Id : 630680254817 Is Question Mandatory : No Calculator : None Response Time : N.A Think Time : N.A Minimum Instruction Time : 0

Correct Marks : 1

రామప్ప దేవాలయం తెలంగాణలోని _____ లో ఉన్న ఒక చారిత్రాత్మక దేవాలయం.

Options :

- హైదరాబాద్ జిల్లా
- ములుగు జిల్లా
- నల్గొండ జిల్లా
- నిజామాబాద్ జిల్లా

Question Number : 112 Question Id : 630680254818 Is Question Mandatory : No Calculator : None Response Time : N.A Think Time : N.A Minimum Instruction Time : 0

Correct Marks : 1

Five cousins Mugdha, Lata, Kareena, Sushma, and Radha are seated around a circular table facing the centre. Mugdha is to the immediate right of Lata. Kareena does not sit adjacent to Radha but is a neighbour of Lata.

Which of the following statement(s) is/are true based on the above conditions?

- A) Kareena sits to the immediate right of Sushma.
- B) Radha sits second to the right of Lata.

Options :

- A only
- B only
- Both A and B
- Neither A nor B

Question Number : 112 Question Id : 630680254818 Is Question Mandatory : No Calculator : None Response Time : N.A Think Time : N.A Minimum Instruction Time : 0

Correct Marks : 1

ముగ్ధ, లత, కరీనా, సుష్మా మరియు రాధ అను ఐదుగురు కజిన్లు ఒక వృత్తాకార బల్ల చుట్టూ కేంద్రాభిముఖంగా కూర్చున్నారు.

లతకు తక్షణ కుడివైపున ముగ్ధ ఉన్నారు. రాధకు ప్రక్కన కరీనా కూర్చోలేదు, కానీ తను లతకు పొరుగు వ్యక్తి.

పై పరతుల ఆధారంగా క్రింది ప్రకటన(ల)లో ఏది/ఏవి సరైనది/వి?

- A) సుష్మాకు తక్షణ కుడివైపున కరీనా కూర్చుంది.
- B) లతకి కుడివైపున రెండవ స్థానంలో రాధ కూర్చుంది.

Options :

- A మాత్రమే
- B మాత్రమే
- A మరియు B రెండూ
- A కానీ లేదా B కానీ ఏదీ కాదు

Question Number : 113 Question Id : 630680254819 Is Question Mandatory : No Calculator : None Response Time : N.A Think Time : N.A Minimum Instruction Time : 0

Correct Marks : 1

Six friends Mohan, Manish, Manas, Minal, Mehak and Mohit are sitting in a straight row facing North. Mehak and Mohit are in the centre. Mohan and Manish are at the corners. Manas is sitting to the immediate left of Mohan. Who is sitting to the immediate right of Manish?

Options :

- Minal
- Manas
- Mehak
- Mohit

Question Number : 113 Question Id : 630680254819 Is Question Mandatory : No Calculator : None Response Time : N.A Think Time : N.A Minimum Instruction Time : 0

Correct Marks : 1

మోహన్, మనీష్, మానస్, మినాల్, మెహక్ మరియు మోహిత్ అను ఆరుగురు స్నేహితులు ఒక వరుసలో ఉత్తరాభిముఖంగా కూర్చున్నారు. మెహక్ మరియు మోహిత్ మధ్యలో ఉన్నారు. మోహన్ మరియు మనీష్ మూలల్లో ఉన్నారు. మోహన్ కి తక్షణ ఎడమ వైపున మానస్ కూర్చున్నారు. మనీష్ కు తక్షణ కుడివైపున ఎవరు కూర్చున్నారు?

Options :

- ✓ మినల్
- * మానస్
- * మెహక్
- * మోహిత్

Question Number : 114 Question Id : 630680254820 Is Question Mandatory : No Calculator : None Response Time : N.A Think Time : N.A Minimum Instruction Time : 0

Correct Marks : 1

In a row of 50 students (all are facing north), Raj is to the immediate left of Kiran whose position is 21st from the left end. Find the position of Raj from the right end.

Options :

- * 30th
- * 32nd
- ✓ 31st
- * 29th

Question Number : 114 Question Id : 630680254820 Is Question Mandatory : No Calculator : None Response Time : N.A Think Time : N.A Minimum Instruction Time : 0

Correct Marks : 1

50 మంది విద్యార్థులు గల ఒక వరుసలో (అందరూ ఉత్తరాభిముఖంగా ఉన్నారు), ఎడమ వైపు నుండి 21వ స్థానంలో ఉన్న కిరణ్ కి తక్షణ ఎడమ వైపున రాజ్ ఉన్నారు. కుడి చివర నుండి రాజ్ యొక్క స్థానాన్ని కనుగొనండి.

Options :

- * 30వ
- * 32వ
- ✓ 31వ
- * 29వ

Question Number : 115 Question Id : 630680254821 Is Question Mandatory : No Calculator : None Response Time : N.A Think Time : N.A Minimum Instruction Time : 0

Correct Marks : 1

If the day before yesterday was Sunday, when will Thursday be?

Options :

- * Yesterday
- * Today
- * Tomorrow
- ✓ Day after tomorrow

Question Number : 115 Question Id : 630680254821 Is Question Mandatory : No Calculator : None Response Time : N.A Think Time : N.A Minimum Instruction Time : 0

Correct Marks : 1

మొన్నటి రోజు ఆదివారం అయితే, గురువారం ఎప్పుడు వస్తుంది?

Options :

- * నిన్న
- * ఈరోజు
- * రేపు
- ✓ ఎల్లండి

Question Number : 116 Question Id : 630680254822 Is Question Mandatory : No Calculator : None Response Time : N.A Think Time : N.A Minimum Instruction Time : 0

Correct Marks : 1

Rekha's birthday is on the 10th of April and Seema's birthday is on the 11th of May. If in a particular year, Rekha's birthday was on Sunday, what will be the day on Seema's birthday in the same year?

Options :

- ✘ Tuesday
- ✔ Wednesday
- ✘ Monday
- ✘ Thursday

Question Number : 116 Question Id : 630680254822 Is Question Mandatory : No Calculator : None Response Time : N.A Think Time : N.A Minimum Instruction Time : 0

Correct Marks : 1

రేఖ పుట్టినరోజు ఏప్రిల్ 10 మరియు సీమ పుట్టినరోజు మే 11. ఒక నిర్దిష్ట సంవత్సరంలో రేఖ పుట్టినరోజు ఆదివారం అయితే, అదే సంవత్సరంలో సీమ పుట్టినరోజు ఏ రోజు అవుతుంది?

Options :

- ✘ మంగళవారం
- ✔ బుధవారం
- ✘ సోమవారం
- ✘ గురువారం

Question Number : 117 Question Id : 630680254823 Is Question Mandatory : No Calculator : None Response Time : N.A Think Time : N.A Minimum Instruction Time : 0

Correct Marks : 1

Read the given statements and conclusions carefully. Assuming that the information given in the statements is true, even if it appears to be at variance with commonly known facts, decide which of the given conclusions logically follow(s) from the statements.

Statement I: All mobiles are gadgets.

Statement II: No gadget is a tablet.

Conclusion I: Some gadgets are mobiles.

Conclusion II: Some mobiles are tablets.

Options :

- ✔ Only conclusion I follows
- ✘ Only conclusion II follows
- ✘ Both conclusion I and II follow
- ✘ Neither conclusion I nor II follows

Question Number : 117 Question Id : 630680254823 Is Question Mandatory : No Calculator : None Response Time : N.A Think Time : N.A Minimum Instruction Time : 0

Correct Marks : 1

ఇవ్వబడిన ప్రకటనలు మరియు తీర్మానాలను జాగ్రత్తగా చదవండి. ఇవ్వబడిన సమాచారం సాధారణంగా తెలిసిన వాస్తవాలకు భిన్నంగా కనిపించినప్పటికీ, ఇవ్వబడిన తీర్మానాలలో ఏది ప్రకటనలను తార్కికంగా అనుసరిస్తున్నాయో నిర్ణయించండి.

ప్రకటన I: అన్ని మొబైల్లు గాడ్జెట్లు.

ప్రకటన II: గాడ్జెట్ ఏదీ టాబ్లెట్ కాదు.

తీర్మానం I: కొన్ని గాడ్జెట్లు మొబైల్లు.

తీర్మానం II: కొన్ని మొబైల్లు టాబ్లెట్లు.

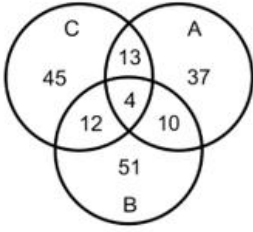
Options :

- ✔ తీర్మానం I మాత్రమే అనుసరిస్తుంది
- ✘ తీర్మానం II మాత్రమే అనుసరిస్తుంది
- ✘ తీర్మానం I మరియు II లు రెండూ అనుసరిస్తాయి
- ✘ తీర్మానం I కానీ లేదా II కానీ ఏదీ అనుసరించదు

Question Number : 118 Question Id : 630680254824 Is Question Mandatory : No Calculator : None Response Time : N.A Think Time : N.A Minimum Instruction Time : 0

Correct Marks : 1

The figure shows the number of people in an office who eat different kinds of vegetables namely A, B and C.



Find the number of people who eat exactly two vegetables.

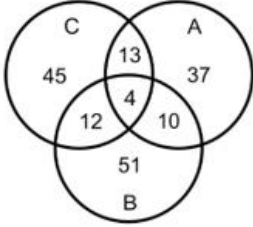
Options :

- ✘ 4
- ✘ 39
- ✔ 35
- ✘ 43

Question Number : 118 Question Id : 630680254824 Is Question Mandatory : No Calculator : None Response Time : N.A Think Time : N.A Minimum Instruction Time : 0

Correct Marks : 1

ఈ చిత్రము A, B మరియు C అను వివిధ రకాల కూరగాయలను తినే ఒక కార్యాలయంలోని వ్యక్తుల సంఖ్యను చూపుతుంది.



సరిగ్గా రెండు కూరగాయలను తినే వ్యక్తుల సంఖ్యను కనుగొనండి.

Options :

- ✘ 4
- ✘ 39
- ✔ 35
- ✘ 43

Question Number : 119 Question Id : 630680254825 Is Question Mandatory : No Calculator : None Response Time : N.A Think Time : N.A Minimum Instruction Time : 0

Correct Marks : 1

Refer to the alphanumeric series given below and answer the following questions:

(Left) 1 % S 8 6 7 & * F 4 # U @ 1 M ! 6 B H % T ? 9 (Right)

Find the number of letters which are immediately preceded by a symbol and immediately followed by a number when counted from left to right.

Options :

- ✘ 1
- ✘ 3
- ✔ 2
- ✘ 0

Question Number : 119 Question Id : 630680254825 Is Question Mandatory : No Calculator : None Response Time : N.A Think Time : N.A Minimum Instruction Time : 0

Correct Marks : 1

క్రింద ఇవ్వబడిన అక్షరాంకిక శ్రేణిని దృష్టిలో ఉంచుకొని క్రింది ప్రశ్నలకు సమాధానం ఇవ్వండి:

(ఎడమ) 1 % S 8 6 7 & * F 4 # U @ 1 M ! 6 B H % T ? 9 (కుడి)

ఎడమ నుండి కుడికి లెక్కించినప్పుడు అక్షర ముందు స్థానంలో ఒక గుర్తు మరియు అక్షర తరువాతి స్థానంలో ఒక సంఖ్యను కలిగి ఉన్న అక్షరాల సంఖ్యను కనుగొనండి.

Options :

- ✘ 1
- ✘ 3

✓ 2

✗ 0

Question Number : 120 Question Id : 630680254826 Is Question Mandatory : No Calculator : None Response Time : N.A Think Time : N.A Minimum Instruction Time : 0

Correct Marks : 1

The height of six friends is as follows. Aman is taller than Rakesh. Subham is taller than Ranjan and Prem is taller than only Mukesh. Ranjan is taller than Aman. Rakesh is taller than Prem.

Which of the following statement(s) is/are true based on the above conditions?

- A) Subham is the tallest
B) Mukesh is the shortest.
C) Rakesh is taller than Subham.

Options :

- ✗ A only
✓ A and B
✗ B and C
✗ C only

Question Number : 120 Question Id : 630680254826 Is Question Mandatory : No Calculator : None Response Time : N.A Think Time : N.A Minimum Instruction Time : 0

Correct Marks : 1

ఆరుగురు స్నేహితుల ఎత్తులు ఈ విధంగా ఉన్నాయి. రాకేష్ కంటే అమన్ పొడుగ్గా ఉన్నాడు. రంజన్ కంటే సుభమ్ పొడవుగా ఉన్నాడు మరియు ముఖేష్ కంటే మాత్రమే ప్రేమ్ పొడవుగా ఉన్నాడు. అమన్ కంటే రంజన్ పొడుగ్గా ఉన్నాడు. ప్రేమ్ కంటే రాకేష్ పొడుగ్గా ఉన్నాడు.

పై పరతుల ఆధారంగా క్రింది ప్రకటన(ల)లో ఏది/ఏవి సరైనది /వి?

- A) అందరికన్నా పొడుగైన వ్యక్తి సుభమ్
B) అందరికన్నా పొట్టి వ్యక్తి ముఖేష్.
C) సుభమ్ కంటే రాకేష్ పొడవుగా ఉన్నాడు.

Options :

- ✗ A మాత్రమే
✓ A మరియు B
✗ B మరియు C
✗ C మాత్రమే

Question Number : 121 Question Id : 630680254827 Is Question Mandatory : No Calculator : None Response Time : N.A Think Time : N.A Minimum Instruction Time : 0

Correct Marks : 1

The age of six students, Ram, Shyam, Mohan, Shivam, Resham, and Lalit are given as follows: Ram is elder than only Resham. Mohan is not the eldest student. Shyam is elder than four students. Shivam is elder than Ram but younger than Mohan. Who is the eldest student?

Options :

- ✗ Resham
✗ Shyam
✓ Lalit
✗ Shivam

Question Number : 121 Question Id : 630680254827 Is Question Mandatory : No Calculator : None Response Time : N.A Think Time : N.A Minimum Instruction Time : 0

Correct Marks : 1

రామ్, శ్యామ్, మోహన్, శివం, రేషమ్ మరియు లలిత్ అను ఆరుగురు విద్యార్థుల వయస్సు ఈ క్రింది విధంగా ఇవ్వబడ్డాయి: కేవలం రేషం కంటే రామ్ పెద్దవాడు. మోహన్ అందరికన్నా పెద్ద విద్యార్థి కాదు. శ్యామ్ నలుగురు విద్యార్థుల కంటే పెద్దవాడు. రామ్ కంటే పెద్దవాడు కానీ మోహన్ కంటే చిన్నవాడు శివం. అందరికన్నా పెద్ద విద్యార్థి ఎవరు?

Options :

- ✗ రేషమ్
✗ శ్యామ్
✓ లలిత్
✗ శివం

Question Number : 122 Question Id : 630680254828 Is Question Mandatory : No Calculator : None Response Time : N.A Think Time : N.A Minimum Instruction Time : 0

Correct Marks : 1

In a certain code language, 'SARCASM' is written as 'MSACRAS' and 'CHEESE' is written as 'ESEEHC'.
Based on the given coding, match the following:

A. WATER	1. LARENEG
B. GENERAL	2. NIATREC
C. CERTAIN	3. YLEVOL
D. LOVELY	4. RETAW

Options :

- ✘ A-3, B -1; C-2; D-4
- ✘ A-4, B -2; C-1; D-3
- ✘ A-4, B -1; C-3; D-2
- ✔ A-4, B -1; C-2; D-3

Question Number : 122 Question Id : 630680254828 Is Question Mandatory : No Calculator : None Response Time : N.A Think Time : N.A Minimum Instruction Time : 0

Correct Marks : 1

ఒక నిర్దిష్ట కోడ్ భాషలో, 'SARCASM'ని 'MSACRAS' అని మరియు 'CHEESE'ని 'ESEEHC' అని వ్రాస్తారు.

ఇవ్వబడిన కోడింగ్ ఆధారంగా, క్రింది వాటిని జతపరచండి.

A. WATER	1. LARENEG
B. GENERAL	2. NIATREC
C. CERTAIN	3. YLEVOL
D. LOVELY	4. RETAW

Options :

- ✘ A-3, B -1; C-2; D-4
- ✘ A-4, B -2; C-1; D-3
- ✘ A-4, B -1; C-3; D-2
- ✔ A-4, B -1; C-2; D-3

Question Number : 123 Question Id : 630680254829 Is Question Mandatory : No Calculator : None Response Time : N.A Think Time : N.A Minimum Instruction Time : 0

Correct Marks : 1

In a certain code language, 'num vum dum' is written as 'cats are dogs', 'hum dum rum' is written as 'dogs don't bite', and 'cats have paws' is written as 'vum cum pum'. What is the code for the word 'are' in that language?

Options :

- ✘ hum
- ✘ vum
- ✔ num
- ✘ dum

Question Number : 123 Question Id : 630680254829 Is Question Mandatory : No Calculator : None Response Time : N.A Think Time : N.A Minimum Instruction Time : 0

Correct Marks : 1

ఒక నిర్దిష్ట కోడ్ భాషలో, 'num vum dum' ని 'cats are dogs' అని వ్రాస్తారు, 'hum dum rum' ని 'dogs don't bite' అని వ్రాస్తారు మరియు 'cats have paws' ని 'vum cum pum' అని వ్రాస్తారు. ఆ భాషలో 'are' అనే పదానికి కోడ్ ఏమిటి?

Options :

- ✘ hum
- ✘ vum
- ✔ num
- ✘ dum

Question Number : 124 Question Id : 630680254830 Is Question Mandatory : No Calculator : None Response Time : N.A Think Time : N.A Minimum Instruction Time : 0

Correct Marks : 1

Subham walks 5 km towards the north, then turns left and walk 12 km, turns left again and walks 10 km, and finally turns left and walks for another 12 km. Find the distance from the starting point to the end point.

Options :

- 10 km
- 5 km
- 15 km
- 20 km

Question Number : 124 Question Id : 630680254830 Is Question Mandatory : No Calculator : None Response Time : N.A Think Time : N.A Minimum Instruction Time : 0

Correct Marks : 1

సుభం ఉత్తర దిశగా 5 km నడిచి, ఎడమవైపుకు తిరిగి 12 km నడిచి, మళ్ళీ ఎడమకు తిరిగి 10 km నడిచి, చివరకు ఎడమవైపు తిరిగి మరో 12 km నడిచాడు. ప్రారంభ బిందువు నుండి ముగింపు బిందువుకు మధ్య గల దూరాన్ని కనుగొనండి.

Options :

- 10 km
- 5 km
- 15 km
- 20 km

Question Number : 125 Question Id : 630680254831 Is Question Mandatory : No Calculator : None Response Time : N.A Think Time : N.A Minimum Instruction Time : 0

Correct Marks : 1

Select the option that is related to the fifth number-letter-cluster in the same way as the second number-letter-cluster is related to the first number-letter-cluster and the fourth number-letter-cluster is related to the third number-letter-cluster.

S8 : H19 :: M14 : N13 :: V5 : ?

Options :

- F22
- E23
- E22
- D23

Question Number : 125 Question Id : 630680254831 Is Question Mandatory : No Calculator : None Response Time : N.A Think Time : N.A Minimum Instruction Time : 0

Correct Marks : 1

రెండవ సంఖ్యా అక్షర సమూహం మొదటి సంఖ్యా అక్షర సమూహముకు మరియు నాల్గవ సంఖ్యా అక్షర సమూహం మూడవ సంఖ్యా అక్షర సమూహముకు సంబంధించిన విధంగానే ఐదవ సంఖ్యా అక్షర సమూహసహముకు సంబంధించిన ఎంపికను ఎంచుకోండి.

S8 : H19 :: M14 : N13 :: V5 : ?

Options :

- F22
- E23
- E22
- D23

Question Number : 126 Question Id : 630680254832 Is Question Mandatory : No Calculator : None Response Time : N.A Think Time : N.A Minimum Instruction Time : 0

Correct Marks : 1

Consider the following pairs and choose the pair which matches the given relation.

Disease : Body part

- A. Conjunctivitis : Ears
- B. Asthma : Lungs
- C. Polio : Skin
- D. Arthritis : Bones

Options :

- B and C
- A and D
- B and D
- D only

Question Number : 126 Question Id : 630680254832 Is Question Mandatory : No Calculator : None Response Time : N.A Think Time : N.A Minimum Instruction Time : 0

Correct Marks : 1

క్రింది జతలను పరిగణించండి మరియు సరైన సంబంధాలను కలిగి ఉన్న జతలను ఎంచుకోండి.

- వ్యాధి : శరీర భాగం
 A. కండ్లకలక : చెవులు
 B. ఆస్సమా : ఊపిరితిత్తులు
 C. పోలీయో : చర్మం
 D. ఆర్థరైటిస్ : ఎముకలు

Options :

- ✘ B మరియు C
 ✘ A మరియు D
 ✓ B మరియు D
 ✘ D మాత్రమే

Question Number : 127 Question Id : 630680254833 Is Question Mandatory : No Calculator : None Response Time : N.A Think Time : N.A Minimum Instruction Time : 0

Correct Marks : 1

A question is followed by two statements numbered I and II. You have to decide whether the data provided in the statements are sufficient to answer the question. Read both statements and answer.

Question: What is Shyam's age?

Statement I: Shyam, Ram and Sundar are of the same age.

Statement II: Ram is 5 more than twice the age of Mohan, whose age is 32 years.

Options :

- ✘ I alone is sufficient while II alone is not sufficient
 ✘ II alone is sufficient while I alone is not sufficient
 ✓ Both I and II together are sufficient
 ✘ Neither I nor II is sufficient

Question Number : 127 Question Id : 630680254833 Is Question Mandatory : No Calculator : None Response Time : N.A Think Time : N.A Minimum Instruction Time : 0

Correct Marks : 1

I మరియు II అను రెండు ప్రకటనల తరువాత ఒక ప్రశ్న ఇవ్వబడింది. ప్రశ్నకు సమాధానం ఇవ్వడానికి ఆ ప్రకటనలలో ఇవ్వబడిన సమాచారం సరిపోతుందో లేదో మీరు నిర్ణయించాలి. రెండు ప్రకటనలనూ చదివి సమాధానం ఇవ్వండి.

ప్రశ్న: శ్యామ్ యొక్క వయస్సు ఎంత?

ప్రకటన I: శ్యామ్, రామ్ మరియు సుందర్ ఒకే వయస్సు గలవారు.

ప్రకటన II: రామ్ యొక్క వయసు 32 సంవత్సరాల వయస్సు గల మోహన్ వయస్సుకు రెండింతల కంటే 5 ఎక్కువ.

Options :

- ✘ I మాత్రమే సరిపోతుంది, అయితే II మాత్రమే సరిపోదు
 ✘ II మాత్రమే సరిపోతుంది, అయితే I మాత్రమే సరిపోదు
 ✓ I మరియు II రెండూ కలిసి సరిపోతాయి
 ✘ I కానీ లేదా II కానీ ఏదీ సరిపోదు

Question Number : 128 Question Id : 630680254834 Is Question Mandatory : No Calculator : None Response Time : N.A Think Time : N.A Minimum Instruction Time : 0

Correct Marks : 1

A question is followed by three statements numbered I, II and III. You have to decide whether the data provided in the statements are sufficient to answer the question. Read all the statements and answer.

Question: Find the mean age of the family.

Statement I: A family consists of a father, a mother and their two children.

Statement II: The mother is 5 years younger than the father whose age is 50 years.

Statement III: The elder child is half the age of the father and the younger child is one-third the age of the mother.

Options :

- ✘ Only I and III together are sufficient
 ✘ Only III is sufficient
 ✘ Only I and II together are sufficient
 ✓ All three together are sufficient

Question Number : 128 Question Id : 630680254834 Is Question Mandatory : No Calculator : None Response Time : N.A Think Time : N.A Minimum Instruction Time : 0

Correct Marks : 1

I, II మరియు III అను మూడు ప్రకటనల తరువాత ఒక ప్రశ్న ఇవ్వబడింది. ప్రశ్నకు సమాధానం ఇవ్వడానికి ఆ ప్రకటనలలో ఇవ్వబడిన సమాచారం సరిపోతుందో లేదో మీరు నిర్ణయించాలి. అన్ని ప్రకటనలనూ చదివి సమాధానం ఇవ్వండి.

ప్రశ్న: కుటుంబం యొక్క సగటు వయస్సును కనుగొనండి.

ప్రకటన I: ఒక కుటుంబంలో తండ్రి, తల్లి మరియు వారి ఇద్దరు పిల్లలు ఉన్నారు.

ప్రకటన II: 50 సంవత్సరాల వయస్సు గల తండ్రి కంటే తల్లి 5 సంవత్సరాలు చిన్నది.

ప్రకటన III: పెద్ద బిడ్డ యొక్క వయస్సు తండ్రి వయస్సులో సగం మరియు చిన్న బిడ్డ యొక్క వయస్సు తల్లి వయస్సులో మూడింట ఒక వంతు.

Options :

- * I మరియు III మాత్రమే సరిపోతాయి
- * III మాత్రమే సరిపోతుంది
- * I మరియు II మాత్రమే సరిపోతాయి
- ✓ మూడూ కలిసి సరిపోతాయి

Question Number : 129 Question Id : 630680254835 Is Question Mandatory : No Calculator : None Response Time : N.A Think Time : N.A Minimum Instruction Time : 0

Correct Marks : 1

Read the given statements and conclusions carefully. Assuming that the information given in the statements is true, even if it appears to be at variance with commonly known facts, decide which of the given conclusions logically follow(s) from the statements.

Statement I: Most Medical students are brilliant.

Statement II: Subham is brilliant.

Conclusion I: Subham is a Medical student.

Conclusion II: Some medical students are not brilliant.

Options :

- * Only conclusion I follows
- ✓ Only conclusion II follows
- * Both conclusion I and II follow
- * Neither conclusion I nor II follows

Question Number : 129 Question Id : 630680254835 Is Question Mandatory : No Calculator : None Response Time : N.A Think Time : N.A Minimum Instruction Time : 0

Correct Marks : 1

ఇవ్వబడిన ప్రకటనలు మరియు ముగింపులను జాగ్రత్తగా చదవండి. ప్రకటనలలో ఇవ్వబడిన సమాచారం నిజమని భావిస్తూ సాధారణంగా తెలిసిన వాస్తవాలకు భిన్నంగా కనిపించినప్పటికీ, ఇవ్వబడిన తీర్మానాలలో ఏది ప్రకటనలను తార్కికంగా అనుసరిస్తాయో నిర్ణయించండి.

ప్రకటన I: చాలా మంది వైద్య విద్యార్థులు తెలివైనవారు.

ప్రకటన II: శుభం తెలివైనవాడు.

తీర్మానం I: శుభం ఒక వైద్య విద్యార్థి.

తీర్మానం II: కొంతమంది వైద్య విద్యార్థులు తెలివైనవారు కాదు.

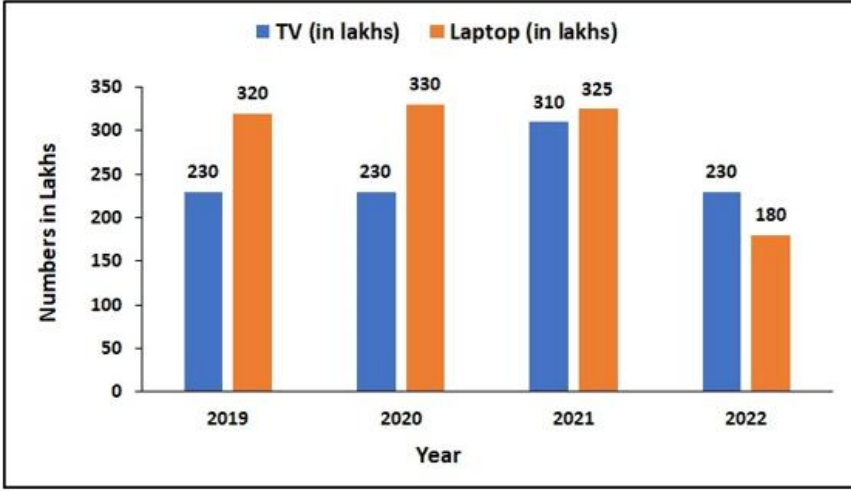
Options :

- * తీర్మానం I మాత్రమే అనుసరిస్తుంది
- ✓ తీర్మానం II మాత్రమే అనుసరిస్తుంది
- * తీర్మానం I మరియు II లు రెండూ అనుసరిస్తాయి
- * తీర్మానం I కానీ లేదా II కానీ ఏదీ అనుసరించదు

Question Number : 130 Question Id : 630680254836 Is Question Mandatory : No Calculator : None Response Time : N.A Think Time : N.A Minimum Instruction Time : 0

Correct Marks : 1

The bar graph shows the production of TV's and laptops in four consecutive years. Calculate the ratio of TV in 2019 to laptops in 2022.



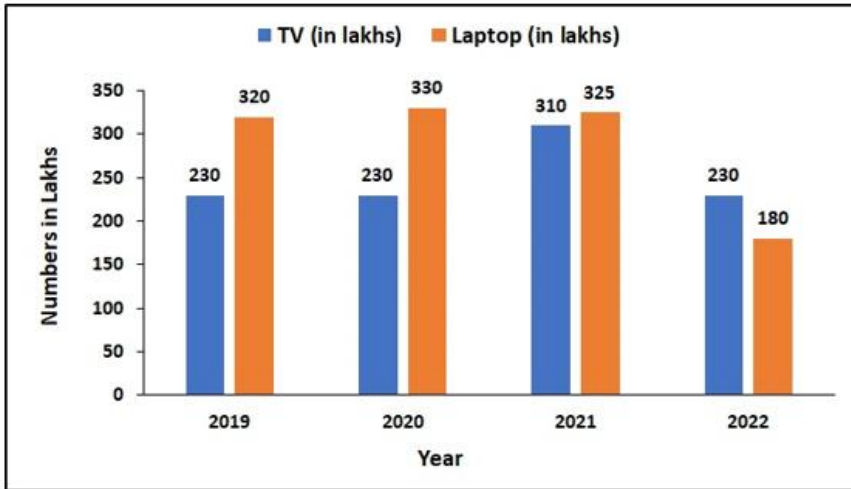
Options :

- ✘ 21 : 23
- ✔ 23 : 18
- ✘ 21 : 18
- ✘ 18 : 23

Question Number : 130 Question Id : 630680254836 Is Question Mandatory : No Calculator : None Response Time : N.A Think Time : N.A Minimum Instruction Time : 0

Correct Marks : 1

ఈ కమ్ప్యూటర్ రేఖా చిత్రము వయస్సుగా నాలుగు సంవత్సరాలలో టీవీలు మరియు ల్యాప్టాప్ల ఉత్పత్తిని సూచిస్తుంది. 2019లో టీవీ మరియు 2022లో ల్యాప్టాప్ల నిష్పత్తిని లెక్కించండి.



Numbers in lakhs – లక్షల్లో సంఖ్యలు, TV (in lakhs) – టీవీ (లక్షల్లో), Laptop (in lakhs) – ల్యాప్టాప్ (లక్షల్లో)

Year – సంవత్సరం

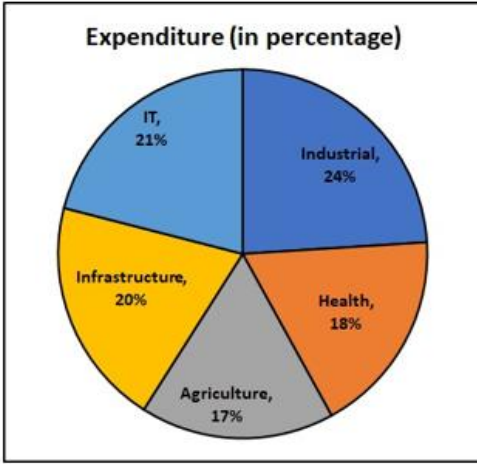
Options :

- ✘ 21 : 23
- ✔ 23 : 18
- ✘ 21 : 18
- ✘ 18 : 23

Question Number : 131 Question Id : 630680254837 Is Question Mandatory : No Calculator : None Response Time : N.A Think Time : N.A Minimum Instruction Time : 0

Correct Marks : 1

The following pie chart shows the spending of a country on various sectors. If the total amount spent on agriculture was Rs. 850 crore, then find the amount spent on Health sector.



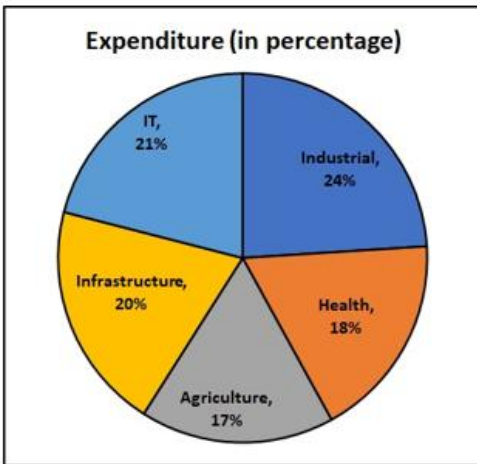
Options :

- ✘ Rs. 90 crore
- ✔ Rs. 900 crore
- ✘ Rs. 1000 crore
- ✘ Rs. 750 crore

Question Number : 131 Question Id : 630680254837 Is Question Mandatory : No Calculator : None Response Time : N.A Think Time : N.A Minimum Instruction Time : 0

Correct Marks : 1

క్రీంది పై రేఖా చిత్రము వివిధ రంగాలలో దేశం యొక్క ఖర్చులను సూచిస్తుంది. వ్యవసాయానికి ఖర్చు చేసిన మొత్తం రూ. 850 కోట్లు అయితే ఆరోగ్య రంగానికి చేసిన ఖర్చు మొత్తాన్ని కనుగొనండి.



Expenditure (in percentage) – ఖర్చు (శాతంలో), Industrial – పారిశ్రామిక, Health – ఆరోగ్యం

Agriculture – వ్యవసాయం, Infrastructure – మౌలిక సదుపాయాలు

Options :

- ✘ Rs. 90 కోట్లు
- ✔ Rs. 900 కోట్లు
- ✘ Rs. 1000 కోట్లు
- ✘ Rs. 750 కోట్లు

Question Number : 132 Question Id : 630680254838 Is Question Mandatory : No Calculator : None Response Time : N.A Think Time : N.A Minimum Instruction Time : 0

Correct Marks : 1

Select the most appropriate option to fill in the blank.

He did not do _____ things that the other schoolmates did.

Options :

- ✔ the

- an
- their
- No word required

Question Number : 132 Question Id : 630680254838 Is Question Mandatory : No Calculator : None Response Time : N.A Think Time : N.A Minimum Instruction Time : 0

Correct Marks : 1

Select the most appropriate option to fill in the blank.
He did not do _____ things that the other schoolmates did.

Options :

- the
- an
- their
- No word required

Question Number : 133 Question Id : 630680254839 Is Question Mandatory : No Calculator : None Response Time : N.A Think Time : N.A Minimum Instruction Time : 0

Correct Marks : 1

Select the most appropriate option to fill in the blank.
He was wearing round glasses, and on his forehead was _____ deep frown.

Options :

- an
- the
- No word required
- a

Question Number : 133 Question Id : 630680254839 Is Question Mandatory : No Calculator : None Response Time : N.A Think Time : N.A Minimum Instruction Time : 0

Correct Marks : 1

Select the most appropriate option to fill in the blank.
He was wearing round glasses, and on his forehead was _____ deep frown.

Options :

- an
- the
- No word required
- a

Question Number : 134 Question Id : 630680254840 Is Question Mandatory : No Calculator : None Response Time : N.A Think Time : N.A Minimum Instruction Time : 0

Correct Marks : 1

Select the most appropriate option to fill in the blank.
The script was the only hint of Mrinalini's very _____ past.

Options :

- definitely
- frowning
- mysterious
- cleanly

Question Number : 134 Question Id : 630680254840 Is Question Mandatory : No Calculator : None Response Time : N.A Think Time : N.A Minimum Instruction Time : 0

Correct Marks : 1

Select the most appropriate option to fill in the blank.
The script was the only hint of Mrinalini's very _____ past.

Options :

- definitely
- frowning
- mysterious
- cleanly

Question Number : 135 Question Id : 630680254841 Is Question Mandatory : No Calculator : None Response Time : N.A Think Time : N.A Minimum Instruction Time : 0

Correct Marks : 1

Select the most appropriate option to fill in the blank.

What a contrast _____ him and his friend.

Options :

- through
- between
- amidst
- across

Question Number : 135 Question Id : 630680254841 Is Question Mandatory : No Calculator : None Response Time : N.A Think Time : N.A Minimum Instruction Time : 0

Correct Marks : 1

Select the most appropriate option to fill in the blank.

What a contrast _____ him and his friend.

Options :

- through
- between
- amidst
- across

Question Number : 136 Question Id : 630680254842 Is Question Mandatory : No Calculator : None Response Time : N.A Think Time : N.A Minimum Instruction Time : 0

Correct Marks : 1

Which of the given statements has a grammatical error?

Statement A: As he stared out into the dark, a black shadow moved under the trees.

Statement B: You had better let me invest it, because if you take it, you'll spend it.

Options :

- Only A
- Only B
- Both A and B
- Neither A nor B

Question Number : 136 Question Id : 630680254842 Is Question Mandatory : No Calculator : None Response Time : N.A Think Time : N.A Minimum Instruction Time : 0

Correct Marks : 1

Which of the given statements has a grammatical error?

Statement A: As he stared out into the dark, a black shadow moved under the trees.

Statement B: You had better let me invest it, because if you take it, you'll spend it.

Options :

- Only A
- Only B
- Both A and B
- Neither A nor B

Question Number : 137 Question Id : 630680254843 Is Question Mandatory : No Calculator : None Response Time : N.A Think Time : N.A Minimum Instruction Time : 0

Correct Marks : 1

Which of the given statements has/have a grammatical error?

Statement A: I knew the risk of snow, though it seldom falls heavy so far south, save high up in the mountains.

Statement B: He said it would tell my whole fortune if I wanted it to.

Options :

- Only A
- Only B
- Both A and B
- Neither A nor B

Question Number : 137 Question Id : 630680254843 Is Question Mandatory : No Calculator : None Response Time : N.A Think Time : N.A Minimum Instruction Time : 0

Correct Marks : 1

Which of the given statements has/have a grammatical error?

Statement A: I knew the risk of snow, though it seldom falls heavy so far south, save high up in the mountains.

Statement B: He said it would tell my whole fortune if I wanted it to.

Options :

- ✔ Only A
- ✘ Only B
- ✘ Both A and B
- ✘ Neither A nor B

Question Number : 138 Question Id : 630680254844 Is Question Mandatory : No Calculator : None Response Time : N.A Think Time : N.A Minimum Instruction Time : 0

Correct Marks : 1

Parts of a paragraph are given below in jumbled order. Arrange the parts in the correct order to form a meaningful paragraph.

- A. her conversations with students and posing
- B: After a few minutes she got to her feet and began to pace
- C. questions here and there. Harry
- D. the room in Trelawney's wake, listening to
- E. bent his head hurriedly over his book.

Options :

- ✘ ABDEC
- ✘ CADEB
- ✘ BDCEA
- ✔ BDACE

Question Number : 138 Question Id : 630680254844 Is Question Mandatory : No Calculator : None Response Time : N.A Think Time : N.A Minimum Instruction Time : 0

Correct Marks : 1

Parts of a paragraph are given below in jumbled order. Arrange the parts in the correct order to form a meaningful paragraph.

- A. her conversations with students and posing
- B: After a few minutes she got to her feet and began to pace
- C. questions here and there. Harry
- D. the room in Trelawney's wake, listening to
- E. bent his head hurriedly over his book.

Options :

- ✘ ABDEC
- ✘ CADEB
- ✘ BDCEA
- ✔ BDACE

Question Number : 139 Question Id : 630680254845 Is Question Mandatory : No Calculator : None Response Time : N.A Think Time : N.A Minimum Instruction Time : 0

Correct Marks : 1

Which of the given statements has/have a grammatical error?

- Statement A: We hadn't rob nobody, hadn't killed any people, but only just pretended.
- Statement B: They were not welcomed home very cordial by their mother.

Options :

- ✘ Only A
- ✘ Only B
- ✔ Both A and B
- ✘ Neither A nor B

Question Number : 139 Question Id : 630680254845 Is Question Mandatory : No Calculator : None Response Time : N.A Think Time : N.A Minimum Instruction Time : 0

Correct Marks : 1

Which of the given statements has/have a grammatical error?

- Statement A: We hadn't rob nobody, hadn't killed any people, but only just pretended.
- Statement B: They were not welcomed home very cordial by their mother.

Options :

- ✘ Only A
- ✘ Only B
- ✔ Both A and B
- ✘ Neither A nor B

Question Number : 140 Question Id : 630680254846 Is Question Mandatory : No Calculator : None Response Time : N.A Think Time : N.A Minimum Instruction Time : 0

Correct Marks : 1

Which of the given statements has/have a grammatical error?

Statement A: We must not look at them, shouldn't we?

Statement B: I am the lost princess, aren't I?

Options :

- Only A
- Only B
- Both A and B
- Neither A nor B

Question Number : 140 Question Id : 630680254846 Is Question Mandatory : No Calculator : None Response Time : N.A Think Time : N.A Minimum Instruction Time : 0

Correct Marks : 1

Which of the given statements has/have a grammatical error?

Statement A: We must not look at them, shouldn't we?

Statement B: I am the lost princess, aren't I?

Options :

- Only A
- Only B
- Both A and B
- Neither A nor B

Question Number : 141 Question Id : 630680254847 Is Question Mandatory : No Calculator : None Response Time : N.A Think Time : N.A Minimum Instruction Time : 0

Correct Marks : 1

Select the most appropriate question tag to fill in the blank.

His real name is Tom, _____?

Options :

- aren't it
- isn't it
- was it
- wasn't it

Question Number : 141 Question Id : 630680254847 Is Question Mandatory : No Calculator : None Response Time : N.A Think Time : N.A Minimum Instruction Time : 0

Correct Marks : 1

Select the most appropriate question tag to fill in the blank.

His real name is Tom, _____?

Options :

- aren't it
- isn't it
- was it
- wasn't it

Question Number : 142 Question Id : 630680254848 Is Question Mandatory : No Calculator : None Response Time : N.A Think Time : N.A Minimum Instruction Time : 0

Correct Marks : 1

Select the option that expresses the given sentence in active voice.

Worried looks were exchanged between Harry, Ron and Hermione as they were unconvinced.

Options :

- Worried Harry, Ron and Hermione exchanged looks as they were unconvinced.
- Unconvinced, Harry, Ron and Hermione were exchanging worried looks.
- Harry, Ron and Hermione exchanged unconvinced looks.
- Unconvinced, Harry, Ron and Hermione exchanged worried looks.

Question Number : 142 Question Id : 630680254848 Is Question Mandatory : No Calculator : None Response Time : N.A Think Time : N.A Minimum Instruction Time : 0

Correct Marks : 1

Select the option that expresses the given sentence in active voice.

Worried looks were exchanged between Harry, Ron and Hermione as they were unconvinced.

Options :

- Worried Harry, Ron and Hermione exchanged looks as they were unconvinced.
- Unconvinced, Harry, Ron and Hermione were exchanging worried looks.

- ✘ Harry, Ron and Hermione exchanged unconvinced looks.
- ✔ Unconvinced, Harry, Ron and Hermione exchanged worried looks.

Question Number : 143 Question Id : 630680254849 Is Question Mandatory : No Calculator : None Response Time : N.A Think Time : N.A Minimum Instruction Time : 0

Correct Marks : 1

Which of the following idioms is correctly matched with its meaning?

Options :

- ✘ Fit as a fiddle: To go to bed
- ✘ Get real: Slow down
- ✔ Eat your heart out: To make yourself sick with grief
- ✘ Jump the gun: To say something crazy

Question Number : 143 Question Id : 630680254849 Is Question Mandatory : No Calculator : None Response Time : N.A Think Time : N.A Minimum Instruction Time : 0

Correct Marks : 1

Which of the following idioms is correctly matched with its meaning?

Options :

- ✘ Fit as a fiddle: To go to bed
- ✘ Get real: Slow down
- ✔ Eat your heart out: To make yourself sick with grief
- ✘ Jump the gun: To say something crazy

Question Number : 144 Question Id : 630680254850 Is Question Mandatory : No Calculator : None Response Time : N.A Think Time : N.A Minimum Instruction Time : 0

Correct Marks : 1

Select the most appropriate meaning of the given proverb.If you snooze, you lose.

Options :

- ✘ You cannot change what has happened.
- ✔ Act fast to get what you want.
- ✘ To be exceptional
- ✘ Something very easy to do

Question Number : 144 Question Id : 630680254850 Is Question Mandatory : No Calculator : None Response Time : N.A Think Time : N.A Minimum Instruction Time : 0

Correct Marks : 1

Select the most appropriate meaning of the given proverb.If you snooze, you lose.

Options :

- ✘ You cannot change what has happened.
- ✔ Act fast to get what you want.
- ✘ To be exceptional
- ✘ Something very easy to do

Question Number : 145 Question Id : 630680254851 Is Question Mandatory : No Calculator : None Response Time : N.A Think Time : N.A Minimum Instruction Time : 0

Correct Marks : 1

Match the following words with their respective ANTONYMS.

Words	Their Antonyms
A. Floppy	1. Lenient
B. Poignant	2. Cheerful
C. Adamant	3. Cognisant
D. Ignorant	4. Stiff

Options :

- ✘ A-2, B-1, C-4, D-3
- ✔ A-4, B-2, C-1, D-3

- ✘ A-3, B-1, C-2, D-4
- ✘ A-2, B-4, C-3, D-1

Question Number : 145 Question Id : 630680254851 Is Question Mandatory : No Calculator : None Response Time : N.A Think Time : N.A Minimum Instruction Time : 0

Correct Marks : 1

Match the following words with their respective ANTONYMS.

Words	Their Antonyms
A. Floppy	1. Lenient
B. Poignant	2. Cheerful
C. Adamant	3. Cognisant
D. Ignorant	4. Stiff

Options :

- ✘ A-2, B-1, C-4, D-3
- ✔ A-4, B-2, C-1, D-3
- ✘ A-3, B-1, C-2, D-4
- ✘ A-2, B-4, C-3, D-1

Question Number : 146 Question Id : 630680254852 Is Question Mandatory : No Calculator : None Response Time : N.A Think Time : N.A Minimum Instruction Time : 0

Correct Marks : 1

Consider the following pairs:

- A. Honour: Respect
- B. Stigma: Approval
- C. Exaltation: Scorn
- D. Misery: Calm

Identify the correct pair of synonyms.

Options :

- ✔ A only
- ✘ A and B only
- ✘ C and D only
- ✘ A, C and D only

Question Number : 146 Question Id : 630680254852 Is Question Mandatory : No Calculator : None Response Time : N.A Think Time : N.A Minimum Instruction Time : 0

Correct Marks : 1

Consider the following pairs:

- A. Honour: Respect
- B. Stigma: Approval
- C. Exaltation: Scorn
- D. Misery: Calm

Identify the correct pair of synonyms.

Options :

- ✔ A only
- ✘ A and B only
- ✘ C and D only
- ✘ A, C and D only

Question Number : 147 Question Id : 630680254853 Is Question Mandatory : No Calculator : None Response Time : N.A Think Time : N.A Minimum Instruction Time : 0

Correct Marks : 1

Select the correctly spelt word.

Options :

- ✘ Foriegn
- ✔ Aggression
- ✘ Decieve
- ✘ Calender

Question Number : 147 Question Id : 630680254853 Is Question Mandatory : No Calculator : None Response Time : N.A Think Time : N.A Minimum Instruction Time : 0

Correct Marks : 1

Select the correctly spelt word.

Options :

- ❌ Foriegn
- ✅ Aggression
- ❌ Decieve
- ❌ Calender

Question Number : 148 Question Id : 630680254854 Is Question Mandatory : No Calculator : None Response Time : N.A Think Time : N.A Minimum Instruction Time : 0

Correct Marks : 1

Select the INCORRECTLY spelt word.

Options :

- ❌ Guidance
- ❌ Category
- ❌ Conscious
- ✅ Heirarchy

Question Number : 148 Question Id : 630680254854 Is Question Mandatory : No Calculator : None Response Time : N.A Think Time : N.A Minimum Instruction Time : 0

Correct Marks : 1

Select the INCORRECTLY spelt word.

Options :

- ❌ Guidance
- ❌ Category
- ❌ Conscious
- ✅ Heirarchy

Question Number : 149 Question Id : 630680254855 Is Question Mandatory : No Calculator : None Response Time : N.A Think Time : N.A Minimum Instruction Time : 0

Correct Marks : 1

Select the most appropriate homophone to fill in the blank.

Had the late Mr. Darcy liked me less, his son might have _____ with me better.

Options :

- ❌ born
- ❌ bore
- ❌ boar
- ✅ borne

Question Number : 149 Question Id : 630680254855 Is Question Mandatory : No Calculator : None Response Time : N.A Think Time : N.A Minimum Instruction Time : 0

Correct Marks : 1

Select the most appropriate homophone to fill in the blank.

Had the late Mr. Darcy liked me less, his son might have _____ with me better.

Options :

- ❌ born
- ❌ bore
- ❌ boar
- ✅ borne

Question Number : 150 Question Id : 630680254856 Is Question Mandatory : No Calculator : None Response Time : N.A Think Time : N.A Minimum Instruction Time : 0

Correct Marks : 1

Select the most appropriate homophone to fill in the blank.

I cannot _____ to hear you mentioning this thing again and again.

Options :

- ❌ bier
- ✅ bear

- ✘ bare
- ✘ beer

Question Number : 150 Question Id : 630680254856 Is Question Mandatory : No Calculator : None Response Time : N.A Think Time : N.A Minimum Instruction Time : 0

Correct Marks : 1

Select the most appropriate homophone to fill in the blank.

I cannot _____ to hear you mentioning this thing again and again.

Options :

- ✘ bier
- ✔ bear
- ✘ bare
- ✘ beer