

**CHD  
B.Ed.**

**Previous Year Paper**

**2017**

**Adda247**

**Test  
Prime**

By Adda247

# ALL EXAMS, ONE SUBSCRIPTION



Test. Analyze. Improve. Repeat.



## Don't just *prepare*. *Perform.*

Test Prime — built only for mock tests.



**1,50,000+**  
Mock Tests



**25,000+**  
Previous Year Papers



**800+**  
Exam Covered



**500% Refund**  
on Selection



**5 lakh+**  
Free Quizzes



**Daily**  
Free PDFs



**Job Alerts**  
Stay Updated

- Multilingual
- Detailed Solution
- Strong and Weak Areas



**All India  
Rankings**

Compete with lakhs.  
Rank. Improve. Repeat.



← Adda247 test prime

Rating ▾

Editors' choice

New



Adda247 Test Prime  
Adda Education • Education  
Installed



# DOWNLOAD THE APP



Sr. No. : .....

Question Booklet Series : **A****B.Ed. Entrance Test 2017****Important :** Please consult your Admit Card / Roll No. slip before filling your Roll Number on the Test Booklet and Answer Sheet/OMR.

	(In Figures)		(In Words)
Roll No. :	<div style="width: 20px; height: 20px;"></div> <div style="width: 20px; height: 20px;"></div> <div style="width: 20px; height: 20px;"></div> <div style="width: 20px; height: 20px;"></div> <div style="width: 20px; height: 20px;"></div> <div style="width: 20px; height: 20px;"></div>		
	O.M.R. Serial No. :	<div style="width: 20px; height: 20px;"></div> <div style="width: 20px; height: 20px;"></div> <div style="width: 20px; height: 20px;"></div> <div style="width: 20px; height: 20px;"></div> <div style="width: 20px; height: 20px;"></div> <div style="width: 20px; height: 20px;"></div>	

Signature of the Candidate : .....

Signature of Invigilator &amp; Name : .....

Time : 2½ Hours]

[Total No. of Printed Pages : 80

No. of Questions : 150]

[Maximum Marks : 150

**DO NOT OPEN THE SEAL ON THE BOOKLET UNTIL ASKED TO DO SO****INSTRUCTIONS :**

1. Write your Roll No. on the Question Booklet and also on the OMR Answer Sheet in the space provided and nowhere else.
2. Enter the Question Booklet Serial No. on the OMR Answer Sheet. Darken the corresponding bubbles with **Black Ball Point/Black Gel Pen**.
3. Do not make any identification mark on the Answer Sheet or Question Booklet.
4. Please check that this Question Booklet contains **180** questions. In case of any discrepancy, inform the Assistant Superintendent within 10 minutes of the start of Test.
5. Each question has four alternative answers (A, B, C, D) of which only one is correct. For each question, darken only one bubble (A or B or C or D), whichever you think is the correct answer, on the Answer Sheet with **Black Ball Point/Black Gel Pen**. **There shall be no negative marking for wrong answers.**
6. If you do not want to answer a question, leave all the bubbles corresponding to that question blank in the Answer Booklet. No marks will be deducted in such cases.
7. Darken the bubbles in the OMR Answer Sheet according to the Serial No. of the question given in the Question Booklet.
8. If you want to change an already marked answer, erase the shade in the darkened bubble completely.
9. For rough work only the blank sheets at the end of the Question Booklet be used.
10. The Answer Sheet is designed for computer evaluation. Therefore, if you do not follow the instructions given on the Answer Sheet, it may make evaluation by the computer difficult. **Any resultant loss to the candidate on the above account, i.e. not following the instructions completely, shall be of the candidate only.**
11. After the test, **hand over the Question Booklet and the OMR Answer Sheet to the Assistant Superintendent on duty.**
12. In no case the Answer Sheet, the Question Booklet, or its part or any material copied/noted from this Booklet is to be taken out of the examination hall. Any candidate found doing so, would be expelled from the examination.
13. A candidate who creates disturbance of any kind or changes his/her seat or is found in possession of any paper possibly of any assistant or found giving or receiving assistant or found using any other unfair means during the examination will be expelled from the examination by the Centre Superintendent/Observer whose decision shall be final.
14. **Communication equipment such as mobile phones, pager, wireless set, scanner, camera or any electronic/digital gadget etc., is not permitted inside the examination hall. Use of calculators is not allowed.**
15. The candidates will not be allowed to leave the Examination Hall/Room before the expiry of the allotted time.
16. Defiance of any prohibited Instruction will lead to unfair mean case.
17. Carbon copy of OMR is to be removed carefully by the candidate for the personal record.
18. **Question Nos. 1 to 120 are common for all, out of Hindi (Q. Nos. 121-150) and Punjabi (Q. Nos. 151-180) language only one is to be attempted by the candidate.**



**ENGLISH**

(Q.Nos. : **1** to **90**)

Adda247



1. **According to Census 2011, the population density in Punjab was :**  
(A) 484/sq km (B) 550/sq km  
(C) 503/sq km (D) 525/sq km
2. **The largest district of Punjab is :**  
(A) Hoshiarpur (B) Jalandhar  
(C) Amritsar (D) Ludhiana
3. **For how many times, the President's Rule has been imposed in Punjab since 1950 ?**  
(A) 4 (B) 6  
(C) 8 (D) 7
4. **"Nange Pairan Da Safar" is authored by :**  
(A) Dalip Kaur Tiwana (B) Gurpreet Singh Preetlari  
(C) Surjeet Pattar (D) Amrita Pritam
5. **National boundaries of Punjab are with :**  
(A) J & K, Himachal Pradesh, Haryana and Rajasthan  
(B) Delhi, Himachal Pradesh, Haryana and Rajasthan  
(C) U.P., Haryana, Rajasthan and Himachal Pradesh  
(D) M.P., Himachal Pradesh, Haryana and Rajasthan
6. **The only state in India that has an active and enforced Common Civil Code is :**  
(A) Sikkim (B) Goa  
(C) Arunachal Pradesh (D) Assam
7. **Earthquakes are caused by :**  
(A) Tectonism  
(B) Dendudation  
(C) Earth's revolution  
(D) Earth's rotation
8. **A person of which of the following blood groups can receive blood of any group :**  
(A) A (B) B  
(C) AB (D) O

9. How many members can President of India nominate to Rajya Sabha ?
- (A) 5 (B) 12  
(C) 10 (D) 8
10. The playing time for the full version of National Anthem is :
- (A) 32 seconds (B) 44 seconds  
(C) 55 seconds (D) 52 seconds
11. G.D.R. means :
- (A) Gross Domestic Ratio  
(B) Global Depository Receipt  
(C) Global Development Range  
(D) Geographically Developed Region
12. Tuberculosis is caused due to :
- (A) Bacteria (B) Virus  
(C) Fungus (D) None of the above
13. NEFT means :
- (A) National Emblem and Fund Token  
(B) Negotiated Easy Funds Transfer  
(C) National Economic Funds Transfer  
(D) National Electronic Funds Transfer
14. Asset Reconstruction companies in India are related to :
- (A) Short-term loans  
(B) Infrastructure Funds  
(C) Non-performing Assets  
(D) Investment
15. Items that are not covered in GST :
- (A) Alcohol, Gold and Petroleum Products  
(B) Alcohol, Electricity and Petroleum Products  
(C) Alcohol, Electricity and Estate  
(D) Alcohol, Medicines and Electricity

16. Which Indian Origin Canadian You Tube star has been appointed UNICEF's Global Goodwill Ambassador ?
- (A) Gulzar Singh Cheema (B) Ruby Dhalia  
(C) Lilly Singh (D) Nina Grewal
17. What is the name of new integrated mobile app launched by Rail Minister for passengers ?
- (A) Rail Saathi (B) Rail Humsafar  
(C) Rail Musafir (D) Rail Saarthi
18. Which telecom company has launched Rs. 330 crores 100 G optical transport network (NG-OTN) ?
- (A) MTNL (B) Airtel  
(C) BSNL (D) Idea
19. What is the rank of M.L. Nijalingappa who stopped President's convoy for ambulance ?
- (A) Inspector (B) Constable  
(C) DSP (D) Sub inspector
20. Which Ministry has started Start Up India Hub ?
- (A) Commerce and Industry Ministry  
(B) Home Affairs Ministry  
(C) Defence Ministry  
(D) Finance Ministry
21. Slogan "Jai Jawan Jai Kisan" was given by :
- (A) Lal Bahadur Shastri  
(B) Smt. Indira Gandhi  
(C) Mahatma Gandhi  
(D) Jawahar Lal Nehru
22. .... called Pink City of India.
- (A) Karnal  
(B) Jaipur  
(C) Jamnagar  
(D) Allahabad

23. National Song of India “Vande Mataram” has been taken from Bankim Chandra Chatterji’s book :
- (A) Kapal Kundala (B) Vish Vriksha  
(C) Durgesh Nandini (D) Anand Math
24. Alfred Nobel, the founder of Nobel Prize is associated with :
- (A) Cosmic Rays (B) Dynamite  
(C) Dynamo (D) Safety pin
25. Which of the following is not a primary color ?
- (A) Blue (B) Green  
(C) Red (D) Black
26. Clove is obtained from :
- (A) Flower (B) Root  
(C) Stem (D) Leaves
27. The oldest Oil Refinery in India is :
- (A) Haldia (B) Digboi  
(C) Baroda (D) Mumbai
28. DRDO “Nishant” is a :
- (A) Fighter Plane (B) Pioletless Target Aircraft  
(C) Surface to Air Missile (D) Unmanned Air Vehicle
29. “Land of Midnight Sun” is name given to :
- (A) Norway (B) Sweden  
(C) Denmark (D) Dublin
30. OPEC stands for :
- (A) Organisation of Petroleum Exporting Corporations  
(B) Overseas Petroleum Exporting Countries  
(C) Overseas Petroleum Exporting Commission  
(D) Organisation of Petroleum Exporting Countries

31. **“If you open a school, you close a prison.” It means that :**
- (A) Schools are built on the land where there were prisons.
  - (B) The spread of education ends crime.
  - (C) School children throw stones at prison building.
  - (D) Opening ceremony of a school causes much grief and pain to prison officials.
32. **A good teacher is one who :**
- (A) Gives useful information.
  - (B) Explains concepts and principles.
  - (C) Gives printed notes to students.
  - (D) Inspires students to learn.
33. **Education as a subject of legislation listed in :**
- (A) Union List
  - (B) State List
  - (C) Concurrent List
  - (D) Residuary Powers
34. **One basic difference between traditional schools and open learning schools is that :**
- (A) The former are systematic.
  - (B) The latter do not cultivate cultural values.
  - (C) The latter use modern gadgets.
  - (D) The former carry personal touch.
35. **Teacher’s class-room behaviour should be good because :**
- (A) It will set an example.
  - (B) Students will be more attentive.
  - (C) Environment would be conducive to learning.
  - (D) Students will appreciate it.
36. **Teaching aids are useful because they :**
- (A) Help teacher’s work.
  - (B) Activate all senses.
  - (C) Help students to be attentive.
  - (D) Make learning more meaningful.

37. Which of the following is regulatory body for teacher education ?
- (A) NCTE (B) NCERT  
(C) UGC (D) CABE
38. What makes the students active and attentive in the class ?
- (A) Impressive lecture  
(B) Variety in the teaching learning process  
(C) Examples  
(D) Colourful diagrams
39. Teaching results in :
- (A) Learning  
(B) Activating  
(C) Self-actualization  
(D) Self-realization
40. Books in the library should be kept :
- (A) Under lock and key  
(B) According to open access system  
(C) In haphazard manner  
(D) Beyond the access of the students
41. How will you encourage the students to use the library ?
- (A) By telling them the importance of books.  
(B) Give the students some books for study at home.  
(C) Take the students to the library during vacation/holidays.  
(D) Yourself study in the library along with the students.
42. Books should be issued to the students from Library .....
- (A) For unlimited time  
(B) For specified number of days  
(C) As long as students want to retain them  
(D) Not necessary to issue books to students

43. **The Right to free and compulsory education for children between age group of 6 to 14 has been inserted in Indian Constitution as :**
- (A) Article 46
  - (B) Article 16
  - (C) Article 45
  - (D) Article 21
44. **Indian Institute of Advanced Study is located at :**
- (A) Dharamshala
  - (B) Shimla
  - (C) Solan
  - (D) Chandigarh
45. **The National flagship programme of Education (SSA) aims at :**
- (A) Universalization of Elementary Education
  - (B) Universalization of Secondary Education
  - (C) Special Education in Primary Schools
  - (D) Special Secondary Academic Programs
46. **Internal assessment is desirable because :**
- (A) It helps improvement of the aggregate score
  - (B) It creates fear in the minds of students
  - (C) It gives weight age to the classroom performance during the entire session
  - (D) It makes the teacher more powerful
47. **School is the miniature form of :**
- (A) Society
  - (B) Family
  - (C) State
  - (D) Club
48. **All round growth and development of the child implies :**
- (A) Development of home and school
  - (B) Development of different organs of the body
  - (C) Development of the best in child – body, mind and spirit
  - (D) Development of good habits

49. **A student in your class often steals, how will you handle him ?**
- (A) Give him exemplary punishment
  - (B) Threaten the student that he will be expelled from school
  - (C) Try to know the reason behind this kind of behaviour and take remedial steps
  - (D) Hand over the student to the police
50. **OHP means :**
- (A) Over Hearing Programme
  - (B) Official Housing Project
  - (C) Over Head Projector
  - (D) Open House Programme
51. **A teacher should treat his colleagues :**
- (A) With due courtesy and respect
  - (B) With hatred
  - (C) With love and affection
  - (D) With tension and backbiting
52. **P.T.A. stands for :**
- (A) Public Training Agency
  - (B) Parent Teacher Activity
  - (C) Parent Teacher Association
  - (D) Police Training Association
53. **Evaluation should be :**
- (A) Summative
  - (B) Formative
  - (C) Both Summative and Formative
  - (D) Annual
54. **Which of the following is an audio-visual media ?**
- (A) Radio
  - (B) Tape recorder
  - (C) Computer
  - (D) Slide Projector

55. **A child learns his first lesson of living from :**
- (A) State (B) Society  
(C) Home (D) School
56. **The utmost drawback of cramming is that :**
- (A) Students learn unnecessary things  
(B) It impedes original thinking  
(C) Students cannot secure good marks  
(D) It affects the mind adversely
57. **To maintain discipline in class, teacher should :**
- (A) Give responsibilities to students  
(B) Tell about the punishments for wrong acts  
(C) Daily tell them to follow the code of conduct  
(D) Give corporal punishments
58. **Child Labour Prohibition Act (1986) :**
- (A) Prohibits all types of child labour upto 14 years of age of child  
(B) Prohibits child labour in risk- taking works only  
(C) Prohibits child labour during school hours only  
(D) Prohibits child labour by imposing the responsibility of children's education on the employers
59. **A teacher who is not able to draw the attention of his/her students should :**
- (A) evaluate his/her teaching method and improve it  
(B) resign from the post  
(C) find fault in his /her students  
(D) start dictating
60. **A teacher generally asks questions to his pupils during the lecture :**
- (A) To know, are students listening the lecture attentively ?  
(B) To know, which student is brilliant one?  
(C) To know whether the students are understanding the lecture or not  
(D) To help the students.

61. In the following sequence which one of the following sets is odd one ?

NAIDUVENKAI AHANDKOVIND

- (A) VEN
- (B) AIA
- (C) IAN
- (D) EVU

62. What should come next in the following series ?

2, 5, 10, 17, 26, 37, ....

- (A) 43
- (B) 49
- (C) 50
- (D) 53

63. What should come next in the following series ?

2, 5, 11, 17, 23, ...

- (A) 29
- (B) 31
- (C) 33
- (D) 37

64. Which is the most appropriate alternative to replace the \* mark ?

1	2	3
6	4	5
9	8	7
*	8	6

- (A) 1
- (B) 3
- (C) 5
- (D) 7

65. Which set is odd one in the following sets of numbers ?

3463, 1565, 2353, 1465, 2451, 4562, 4495, 2253

- (A) 1465
- (B) 2451
- (C) 3463
- (D) 4562

66. Which set of numbers from the given options (answers) could be a part of the following set ?  
601, 607, 613, 617, 619, .....
- (A) 621  
(B) 623  
(C) 627  
(D) 631
67. If R denotes 'multiplied by', A denotes 'subtracted from', M denotes 'added to' and B denotes 'divided by', then :  
28 B 7 R 2 A 6 M 4 = ?
- (A) 0  
(B) 6  
(C)  $7/3$   
(D) 18
68. If DOG is coded as GOD, KLM is coded NLK, NEW is coded as QEN, then BUY is coded as :
- (A) DUY  
(B) YUB  
(C) FUB  
(D) EUB
69. Find the odd one out in the coded series. A2L, D5O, G8R, J2V, M5X, B3M, E6P, O7Z :
- (A) G8R  
(B) J2V  
(C) B3M  
(D) O7Z
70. Given the coded sequence : 64a, 100u, 121o, 256i. What could be a part of the series ?
- (A) 36b  
(B) 49e  
(C) 331e  
(D) 469z

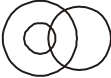



71. **Introducing a girl, a girl said, “She is the daughter of the daughter of the mother of my auntie.” How are these two girls most appropriately related ?**
- (A) Cousins
  - (B) Niece and Auntie
  - (C) Sister-in-law
  - (D) Mother-daughter
72. **If Sherry is the brother of Maninder; Maninder is the sister of Ravinder; and Ravinder is the father of Satinder, how Satinder is precisely related to Sherry ?**
- (A) Brother
  - (B) Sister
  - (C) Nephew
  - (D) Information not adequate to answer
73. **Which is the most appropriate alternative to replace the \* mark ?**  
**Archaeology : Archeologist :: Bird : \***
- (A) Anthologist
  - (B) Anthropologist
  - (C) Oncologist
  - (D) Ornithologist
74. **Which is the most appropriate alternative to replace the \* mark ?**  
**Macaulay : 1833 :: Wood : \***
- (A) 1854
  - (B) 1858
  - (C) 1881
  - (D) 1885
75. **Which is the most appropriate alternative to replace the \* mark ?**  
**Foundation : Edifice :: Constitution : \***
- (A) Government
  - (B) Parliament
  - (C) Nation
  - (D) Cabinet

76. Which is the most appropriate alternative to replace the \* mark ?

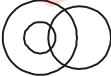

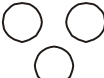

Negative : Positive :: Vague : \*

- (A) Definite
- (B) Sure
- (C) Pure
- (D) Finite

77. Which one of the following diagrams best indicates the relation between Men, Fathers and Engineers ?

- (A) 
- (B) 
- (C) 
- (D) 

78. Which one of the following diagrams best indicates the relation between Indian, Men and Tourists ?

- (A) 
- (B) 
- (C) 
- (D) 

79. Four persons, A, B, C and D are standing in a line facing North. For one minute they are asked to take jump independently with random movements; clock-wise (right) and anti-clock-wise (left) while being at the same very place. Which one of the following person will be facing the North again after one minute of the exercise ?

- (A) Left, Right, Right, Left, Left, Left, Left, Right, Right, Left
- (B) Right, Left, Right, Right, Left, Left, Left, Left, Right, Left
- (C) Left, Left, Right, Right, Left, Left, Left, Left, Right, Right
- (D) Right, Left, Right, Right, Left, Left, Left, Left, Right, Right

80. Given two Statements :

- (i) Some teachers are scientists.
- (ii) All the scientists are daydreamers.

Which conclusions could be drawn ?

- (C1) Teachers could be daydreamers.
- (C2) No scientist could be teacher.

- (A) Only (C1) conclusion follows
- (B) Only (C2) conclusion follows
- (C) Neither (C1) nor (C2) follows
- (D) Both (C1) and (C2) follow

81. Given two Statements :

- (i) Some elephants are cats.
- (ii) Some cats are dogs.

Which conclusions could be drawn ?

- (C1) Some elephants are dogs.
- (C2) Some dogs are elephants.

- (A) Only (C1) conclusion follows
- (B) Either (C1) or (C2) follows
- (C) Neither (C1) nor (C2) follows
- (D) Either both or neither follows

82. Given three Statements :

- (i) All the lions are Kiwis.
- (ii) All the Kiwis are birds.
- (iii) Some wolfs are birds.

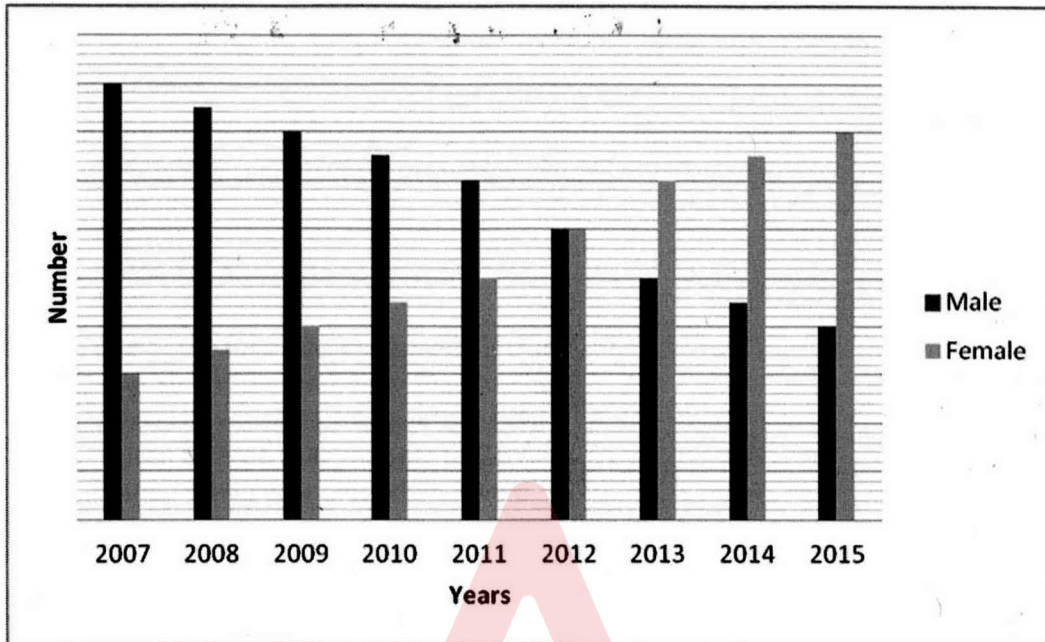
Which conclusions could be drawn ?

- (C1) Some birds are lions.
- (C2) Some wolfs are birds.
- (C3) Kiwis are either lions or wolfs.

- (A) Only (C1)
- (B) Only (C2)
- (C) Only (C1) and (C2)
- (D) Only (C1) and (C3)

**Directions (Q. Nos. 83–85) :**

The following diagram gives information on the number of male and female students admitted in a college over the years :



83. In which year the number of female students was twice the number of male students and/or vice versa ?
- (A) 2008 and 2014                      (B) 2008 and 2015  
(C) 2009 and 2015                      (D) 2009 and 2014
84. In which year female students registered the maximum per cent increase in the admission with respect to the previous year ?
- (A) 2007                                      (B) 2009  
(C) 2012                                      (D) 2015
85. If the total number of students to be admitted in the college is fixed over the years and the minimum number of female students ever enrolled is 150, then what could be the total number of seats in the college ?
- (A) 400                                      (B) 500  
(C) 600                                      (D) 700

**Directions (Q. Nos. 86–88) :**

Five cousins are going out to a party. Organisers want that in the group-wise entry youngest should first enter the venue, followed by next younger one and so on. Eshan says, "I am two years younger to Chander". Fateh says, "I am one year older to Arvind". While Chander says, "I am three years older to Fateh", Garish says, "I am younger to Eshan but older to Fateh".

**86. Who will be first to enter ?**

- (A) Arvind
- (B) Chander
- (C) Fateh
- (D) Data not Adequate to answer

**87. Who will be last to enter ?**

- (A) Chander
- (B) Eshan
- (C) Fateh
- (D) Data not Adequate to answer

**88. Which one of the following statements is true ?**

- (A) Garish is three years older than Arvind
- (B) Fateh is two years younger to Eshan
- (C) Fateh is three years younger to Garish
- (D) Eshan is two years older than Arvind

**Directions (Q. Nos. 89–90) :**

For sending a team to a competition, to choose one from amongst four students the following data on their scores in the last six tests was put to use.

Player Match	S1	S2	S3	S4
1	42	36	72	54
2	58	63	51	49
3	76	51	43	51
4	24	57	28	48
5	45	43	61	46
6	55	50	45	52

**89. In terms of variations in the scores, which student was found to be most consistent and most inconsistent respectively ?**

- (A) S1, S4
- (B) S4, S2
- (C) S3, S1
- (D) S4, S1

**90. Which one of the following statements is true ?**

- (A) S4 is having lower average score than others but is more consistent.
- (B) S1 is having higher average score than others but is more inconsistent.
- (C) S4 is having higher average score than others and is most consistent.
- (D) None of the above three statements is true.



**HINDI**

(Q.Nos. : **1** to **90**)

Adda247



1. 2011 की जनगणना के अनुसार, पंजाब में जनसंख्या घनत्व था :  
 (A) 484 / वर्ग किमी. (B) 550 / वर्ग किमी.  
 (C) 503 / वर्ग किमी. (D) 525 / वर्ग किमी.
2. पंजाब का सबसे बड़ा जिला कौनसा है ?  
 (A) होशियारपुर (B) जालंधर  
 (C) अमृतसर (D) लुधियाना
3. 1950 के बाद पंजाब में राष्ट्रपति शासन कितनी बार लगाया गया है ?  
 (A) 4 (B) 6  
 (C) 8 (D) 7
4. 'नंगे पैरां दा सफ़र' का लेखक कौन है ?  
 (A) दलीप कौर टिवाणा (B) गुरप्रीत सिंह प्रीतलड़ी  
 (C) सुरजीत पातर (D) अमृता प्रीतम
5. पंजाब की राष्ट्रीय सीमाएँ किससे लगती हैं ?  
 (A) जम्मू-कश्मीर, हिमाचल प्रदेश, हरियाणा और राजस्थान  
 (B) दिल्ली, हिमाचल प्रदेश, हरियाणा और राजस्थान  
 (C) यू. पी., हरियाणा, राजस्थान और हिमाचल प्रदेश  
 (D) एम. पी., हिमाचल प्रदेश, हरियाणा और राजस्थान
6. भारत का केवल एक ही राज्य जिसका क्रियात्मक और लागू सामान्य सिविल कोड है, वह राज्य है :  
 (A) सिक्किम (B) गोवा  
 (C) अरुणाचल प्रदेश (D) असम
7. भूकम्प का क्या कारण है ?  
 (A) विवर्तनिका (B) अनाच्छादन  
 (C) पृथ्वी का परिक्रमण (D) पृथ्वी का परिभ्रमण
8. वह व्यक्ति जो निम्नांकित रक्त-वर्ग में से किसी भी व्यक्ति का रक्त ले सकता है।  
 (A) A (B) B  
 (C) AB (D) O

9. भारत का राष्ट्रपति राज्य सभा में कितने सदस्य मनोनीत कर सकता है ?  
 (A) 5 (B) 12  
 (C) 10 (D) 8
10. राष्ट्रगान के पूर्ण पाठ का वादन समय है :  
 (A) 32 सेकण्ड (B) 44 सेकण्ड  
 (C) 55 सेकण्ड (D) 52 सेकण्ड
11. G. D. R. का तात्पर्य है :  
 (A) Gross Domestic Ratio  
 (B) Global Depository Receipt  
 (C) Global Development Range  
 (D) Geographically Developed Region
12. तपेदिक किससे होता है ?  
 (A) जीवाणु (B) विषाणु  
 (C) फफूँदी (D) इनमें से कोई नहीं
13. NEFT से तात्पर्य है :  
 (A) National Emblem and Fund Token  
 (B) Negotiated Easy Funds Transfer  
 (C) National Economic Funds Transfer  
 (D) National Electronic Funds Transfer
14. भारत में सम्पत्ति पुनर्निर्माण कंपनियाँ किससे संबंधित हैं ?  
 (A) अल्पकालीन ऋण (B) आधारभूत संरचना निधि  
 (C) गैर-निष्पादन सम्पत्तियाँ (D) निवेश
15. जो मर्दे GST के अंतर्गत नहीं हैं :  
 (A) अल्कोहल, सोना और पेट्रोलियम उत्पाद  
 (B) अल्कोहल, बिजली और पेट्रोलियम उत्पाद  
 (C) अल्कोहल, बिजली और जायदाद  
 (D) अल्कोहल, दवाइयाँ और बिजली

16. भारतीय मूल के किस कैंनेडियन यू ट्यूब स्टार को UNICEF का सर्वव्यापी सद्भावना राजदूत नियुक्त किया गया है ?
- (A) गुलज़ार सिंह चीमा (B) रूबी ढालिया  
(C) लिली सिंह (D) नीना ग्रेवाल
17. यात्रियों के लिए रेलमंत्री द्वारा आरंभ किये गये नये इंटिग्रेटिड मोबाइल ऐप का क्या नाम है ?
- (A) रेल साथी (B) रेल हमसफर  
(C) रेल मुसाफिर (D) रेल सारथी
18. किस टेलिकॉम कंपनी ने 330 करोड़ 100 जी ऑप्टिकल ट्रांसपोर्ट नेटवर्क (NG-OTN) आरंभ किया है ?
- (A) MTNL (B) Airtel  
(C) BSNL (D) Idea
19. एम. एल. निजलिंगप्पा का क्या रैंक है जिसने एम्बुलेंस के लिए राष्ट्रपति सार्थवहन को रोका था ?
- (A) इंस्पेक्टर (B) कॉन्स्टेबल  
(C) डी. एस. पी. (D) सबइंस्पेक्टर
20. किस मंत्रालय ने स्टार्ट अप इण्डिया हब शुरू की है ?
- (A) वाणिज्य और उद्योग मंत्रालय (B) गृह मामला मंत्रालय  
(C) रक्षा मंत्रालय (D) वित्त मंत्रालय
21. 'जय जवान जय किसान' का नारा किसने दिया था ?
- (A) लाल बहादुर शास्त्री (B) श्रीमती इंदिरा गाँधी  
(C) महात्मा गाँधी (D) जवाहरलाल नेहरू
22. भारत का गुलाबी शहर ..... को कहा जाता है ।
- (A) करनाल (B) जयपुर  
(C) जामनगर (D) इलाहाबाद
23. भारत का राष्ट्रगीत 'वन्दे मातरम्' बंकिम चंद्र चटर्जी की किस पुस्तक में से लिया गया है ?
- (A) कपाल कुंडल (B) विष वृक्ष  
(C) दुर्गेश नंदिनी (D) आनंद मठ

24. एल्फ्रेड नोबेल, नोबेल प्राइज़ का संस्थापक, को किससे संबंधित किया जाता है ?  
 (A) अंतरिक्ष किरणें  
 (B) डायनामाइट  
 (C) डायनमो  
 (D) सेफ्टी पिन
25. प्राथमिक रंग कौनसा नहीं है ?  
 (A) नीला  
 (B) हरा  
 (C) लाल  
 (D) काला
26. लौंग को किससे प्राप्त किया जाता है ?  
 (A) फूल  
 (B) जड़  
 (C) तना  
 (D) पत्ते
27. भारत की सबसे प्राचीन रिफाइनरी है :  
 (A) हल्दिया  
 (B) डिगबोई  
 (C) बड़ौदा  
 (D) मुम्बई
28. DRDO 'निशांत' है :  
 (A) लड़ाका वायुयान  
 (B) पायलट-रहित लक्ष्य वायुयान  
 (C) सतह से हवा तक प्रक्षेपणास्त्र  
 (D) मानव-रहित वायुयान
29. 'Land of Midnight Sun' का नाम किसे दिया गया है ?  
 (A) नॉर्वे  
 (B) स्वीडन  
 (C) डेन्मार्क  
 (D) डबलिन
30. OPEC का पूर्ण रूप है :  
 (A) Organisation of Petroleum Exporting Corporations  
 (B) Overseas Petroleum Exporting Countries  
 (C) Overseas Petroleum Exporting Commission  
 (D) Organisation of Petroleum Exporting Countries

31. 'यदि आप स्कूल खोलते हो, तो आप कैदखाना बंद करते हो'। इसका तात्पर्य है :
- (A) स्कूल उस ज़मीन पर बनाए जाते हैं, जहाँ कैदखाने थे  
 (B) शिक्षा का प्रसार अपराध को खत्म करता है  
 (C) स्कूली बालक कैदखानों की इमारतों पर पत्थर फेंकते हैं  
 (D) स्कूल की उद्घाटन रस्म कैदखाना अधिकारियों को अति संताप और दुःख पहुँचाती है
32. अच्छा अध्यापक वह है जो :
- (A) उपयोगी सूचना प्रदान करता है  
 (B) अवधारणाओं और सिद्धांतों की व्याख्या करता है  
 (C) विद्यार्थियों को मुद्रित नोट्स देता है  
 (D) विद्यार्थियों को सीखने के लिए प्रेरित करता है
33. विधान के विषय के रूप में शिक्षा किसमें सूचीबद्ध है ?
- (A) संघ सूची (B) राज्य सूची  
 (C) समवर्ती सूची (D) अवशिष्ट अधिकार
34. परम्परागत स्कूलों और खुले अधिगम स्कूलों में बुनियादी भिन्नता क्या है ?
- (A) पहले व्यवस्थित हैं  
 (B) दूसरे सांस्कृतिक मूल्यों को आगे नहीं बढ़ाते हैं  
 (C) दूसरे आधुनिक गैजटों का प्रयोग करते हैं  
 (D) पहले में निजी लगाव होता है
35. अध्यापक का कक्षा में व्यवहार अच्छा होना चाहिए क्योंकि :
- (A) यह एक मिसाल कायम करेगा  
 (B) विद्यार्थी अधिक सतर्क रहेंगे  
 (C) माहौल अधिगम के अनुकूल होगा  
 (D) विद्यार्थी इसकी प्रशंसा करेंगे
36. अध्यापन एड्स उपयोगी हैं क्योंकि ये :
- (A) अध्यापक के काम में सहायता करती हैं  
 (B) सभी इन्द्रियों को सक्रिय बनाती हैं  
 (C) विद्यार्थियों को सतर्क होने में सहायता करती हैं  
 (D) अधिगम को अधिक सार्थक बनाती हैं

37. अध्यापक शिक्षा के लिए कौनसा नियामक निकाय है ?  
 (A) NCTE (B) NCERT  
 (C) UGC (D) CABE
38. विद्यार्थियों को कक्षा में क्रियाशील और सतर्क क्या बनाता है ?  
 (A) प्रभावशाली लेक्चर (B) अध्यापन-अधिगम प्रक्रिया में वानगी  
 (C) उदाहरण (D) रंगीन रेखाचित्र
39. अध्यापन का परिणाम किसमें निकलता है ?  
 (A) अधिगम (B) प्रेरकता  
 (C) आत्मसिद्धि (D) आत्मोपलब्धि
40. पुस्तकालय में पुस्तकों को रखना चाहिए :  
 (A) ताले में (B) खुली पहुँच व्यवस्था के अनुसार  
 (C) यादृच्छिक ढंग से (D) विद्यार्थियों की पहुँच से परे
41. आप विद्यार्थियों को पुस्तकालय का प्रयोग करने के लिए कैसे प्रोत्साहित करेंगे ?  
 (A) उनको पुस्तकों का महत्त्व समझाकर  
 (B) विद्यार्थियों को कुछ पुस्तकें घर में पढ़ने के लिए देना  
 (C) लंबी छुट्टियों/छुट्टियों में विद्यार्थियों को पुस्तकालय में ले जाना  
 (D) स्वयं विद्यार्थियों के साथ पुस्तकालय में जाकर पढ़ना
42. विद्यार्थियों को पुस्तकालय में से पुस्तकें ..... समय के लिए देनी चाहिए।  
 (A) असीमित समय के लिए  
 (B) कुछ विशेष निश्चित दिनों के लिए  
 (C) जितनी देर विद्यार्थी इनको रखना चाहें  
 (D) यह जरूरी नहीं कि विद्यार्थियों को पुस्तकें जारी की जाएँ
43. 6 से 14 वर्षों की आयु के बालकों के लिए मुक्त और अनिवार्य शिक्षा के अधिकार को भारतीय संविधान में किसके रूप में सम्मिलित किया गया है ?  
 (A) अनुच्छेद 46 (B) अनुच्छेद 16  
 (C) अनुच्छेद 45 (D) अनुच्छेद 21

44. विकसित अध्ययन की भारतीय संस्था कहाँ पर स्थित है ?
- (A) धर्मशाला (B) शिमला  
(C) सोलन (D) चंडीगढ़
45. शिक्षा के अति महत्त्वपूर्ण राष्ट्रीय कार्यक्रम (SSA) का प्रयोजन है :
- (A) प्रारंभिक शिक्षा की सर्वव्यापकता  
(B) माध्यमिक शिक्षा की सर्वव्यापकता  
(C) प्राथमिक स्कूलों में विशेष शिक्षा  
(D) विशेष माध्यमिक अकादमिक कार्यक्रम
46. आंतरिक मूल्यांकन वांछनीय है, क्योंकि :
- (A) यह कुल प्राप्तांकों के सुधार में सहायता करता है  
(B) यह विद्यार्थियों के मन में भय पैदा करता है  
(C) यह संपूर्ण सेशन के दौरान क्लास-रूम निष्पादन को महत्त्व देता है  
(D) यह अध्यापक को अधिक शक्तिशाली बनाता है
47. स्कूल किसका लघु रूप है ?
- (A) समाज (B) परिवार  
(C) राज्य (D) क्लब
48. बालक की चौतरफा वृद्धि और विकास का तात्पर्य है :
- (A) घर और स्कूल का विकास  
(B) शरीर के विभिन्न अंगों का विकास  
(C) बालक के शरीर, मन और आत्मा में श्रेष्ठ का विकास  
(D) अच्छी आदतों का विकास
49. आपकी कक्षा में बालक अक्सर चोरी करता है, आप उसको कैसे संभालेंगे ?
- (A) उसको निदर्शनी दंड दूँगा  
(B) विद्यार्थी को धमकी दूँगा कि उसे स्कूल में से निकाल दिया जाएगा  
(C) इस तरह के व्यवहार के पीछे का कारण जानने का प्रयास करूँगा और निवारक कदम उठाऊँगा  
(D) विद्यार्थी को पुलिस के हवाले करूँगा

50. OHP का तात्पर्य है :

- (A) Over Hearing Programme
- (B) Official Housing Project
- (C) Over Head Projector
- (D) Open House Programme

51. अध्यापक को अपने साथियों से कैसे व्यवहार करना चाहिए ?

- (A) उचित शिष्टाचार और सम्मान से
- (B) घृणा से
- (C) प्रेम और स्नेह से
- (D) तनाव और चुगलखोरी से

52. P. T. A. का पूर्णरूप है :

- (A) Public Training Agency
- (B) Parent Teacher Activity
- (C) Parent Teacher Association
- (D) Police Training Association

53. मूल्यांकन होना चाहिए :

- (A) संकलनात्मक
- (B) रचनात्मक
- (C) संकलनात्मक और रचनात्मक दोनों
- (D) वार्षिक

54. ऑडियो-विजुअल मीडिया कौनसा है ?

- (A) रेडियो
- (B) टेप रिकॉर्डर
- (C) कम्प्यूटर
- (D) स्लाइड प्रोजेक्टर

55. बालक जीवन का पहला सबक किससे सीखता है ?

- (A) राज्य
- (B) समाज
- (C) घर
- (D) स्कूल

56. रटने की सबसे बड़ी कमी है कि :
- (A) विद्यार्थी अनावश्यक चीजों को याद करते हैं  
(B) यह मौलिक सोच को रोकता है  
(C) विद्यार्थी अच्छे अंक प्राप्त नहीं कर सकते  
(D) यह मन पर विपरीत प्रभाव डालता है
57. कक्षा में अनुशासन के संरक्षण के लिए अध्यापक को चाहिए कि वह :
- (A) विद्यार्थियों को ज़िम्मेदारी सौंपे  
(B) गलत कार्यों के लिए दंड सम्बन्धी सचेत करे  
(C) हर रोज़ आचरण-संहिता का पालन करने के लिए कहे  
(D) शारीरिक दंड दे
58. बाल मज़दूरी निषेध अधिनियम, 1986 :
- (A) बालक की 14 वर्ष की आयु तक सभी प्रकार की बाल मज़दूरी को रोकता है  
(B) केवल जोखिम वाले कार्यों में बाल मज़दूरी को रोकता है  
(C) केवल स्कूल के समय में बाल मज़दूरी को रोकता है  
(D) बालकों की शिक्षा की ज़िम्मेदारी नियोजकों पर डालकर बाल मज़दूरी को रोकता है
59. जो अध्यापक अपने विद्यार्थियों का ध्यान आकर्षित करने के योग्य नहीं है, उसे :
- (A) अपनी शिक्षण-विधि का मूल्यांकन करना चाहिए और इसे सुधारना चाहिए  
(B) अपने पद से त्यागपत्र दे देना चाहिए  
(C) अपने विद्यार्थियों में कमी मालूम करनी चाहिए  
(D) श्रुतलेखन आरम्भ करना चाहिए
60. अध्यापक अपने लेक्चर के दौरान अपने विद्यार्थियों से प्रश्न पूछता है :
- (A) यह जानने के लिए कि क्या विद्यार्थी उसका लेक्चर ध्यान से सुनते हैं  
(B) यह जानने के लिए कि कौनसा विद्यार्थी प्रतिभाशाली है  
(C) यह जानने के लिए कि क्या विद्यार्थी उसका लेक्चर समझ रहे हैं या नहीं  
(D) विद्यार्थियों की सहायता करने के लिए

61. निम्नांकित अनुक्रम में कौनसा विषम पद है ?

NAIDUVENKAIHANDKOVIND

- (A) VEN (B) AIA  
(C) IAN (D) EVU

62. निम्नांकित शृंखला में आगे क्या आना चाहिए ?

2, 5, 10, 17, 26, 37, .....

- (A) 43 (B) 49  
(C) 50 (D) 53

63. निम्नांकित शृंखला में आगे क्या आना चाहिए ?

2, 5, 11, 17, 23, .....

- (A) 29 (B) 31  
(C) 33 (D) 37

64. \* चिन्ह के स्थान पर सबसे उपयुक्त विकल्प कौनसा है ?

1	2	3
6	4	5
9	8	7
*	8	6

- (A) 1 (B) 3  
(C) 5 (D) 7

65. निम्नांकित संख्याओं के सेटों में कौनसा सेट विषम पद है ?

3463, 1565, 2353, 1465, 2451, 4562, 4495, 2253

- (A) 1465 (B) 2451  
(C) 3463 (D) 4562

66. निम्नांकित विकल्पों (उत्तरों) में संख्याओं का कौनसा सेट निम्नांकित सेट का भाग हो सकता है ?

601, 607, 613, 617, 619, .....

- (A) 621 (B) 623  
(C) 627 (D) 631

67. यदि R का मतलब 'से गुणा', A का मतलब 'में से घटाओ', M का मतलब 'में जमा' और B का मतलब 'से भाग' है, तो :  
 $28B7R2A6M4 = ?$   
 (A) 0 (B) 6  
 (C) 7/3 (D) 18
68. यदि DOG को GOD के रूप में, KLM को NLK के रूप में, NEW को QEN के रूप में कोडबद्ध किया जाता है, तो BUY को किसके रूप में कोडबद्ध किया जाता है ?  
 (A) DUY (B) YUB  
 (C) FUB (D) EUB
69. कोडबद्ध श्रृंखला A2L, D5O, G8R, J2V, M5X, B3M, E6P, O7Z में विषम पद मालूम कीजिए :  
 (A) G8R (B) J2V  
 (C) B3M (D) O7Z
70. कोडबद्ध श्रृंखला दी गई है : 64a, 100u, 121o, 256i इस श्रृंखला का भाग कौनसा हो सकता था ?  
 (A) 36b (B) 49e  
 (C) 331e (D) 469z
71. एक लड़की का परिचय देते हुए, एक लड़की ने कहा, "वह मेरी आंटी की माता की बेटी की बेटी है।" इन दोनों का सबसे उपयुक्त रिश्ता क्या है ?  
 (A) कज़न्स (B) नीस और आंटी  
 (C) सिस्टर-इन-लॉ (D) माँ-बेटी
72. यदि शैरी मनिंदर का भाई है, मनिंदर रविंदर की बहन है और रविंदर सतिंदर का पिता है, तो सतिंदर का शैरी से सही रिश्ता क्या है ?  
 (A) भाई (B) बहन  
 (C) नेफ्यू (D) यह सूचना उत्तर देने के लिए पर्याप्त नहीं है
73. \* चिन्ह के स्थान पर सबसे उपयुक्त विकल्प कौनसा है ?  
**Archaeology : Archeologist :: Bird : \***  
 (A) Anthologist (B) Anthropologist  
 (C) Oncologist (D) Ornithologist

74. \* चिन्ह के स्थान पर सबसे उपयुक्त विकल्प कौनसा है ?

Macaulay : 1833 :: Wood : \*

- (A) 1854 (B) 1858  
(C) 1881 (D) 1885

75. \* चिन्ह के स्थान पर सबसे उपयुक्त विकल्प क्या है ?

Foundation : Edifice :: Constitution : \*

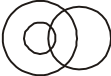
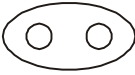


- (A) Government (B) Parliament  
(C) Nation (D) Cabinet

76. \* चिह्न के स्थान पर सबसे उपयुक्त विकल्प क्या है ?

Negative : Positive :: Vague : \*

- (A) Definite (B) Sure  
(C) Pure (D) Finite

77. निम्नांकित रेखाचित्रों में से कौनसा रेखाचित्र आदमियों, पिताओं और इन्जीनियरों के बीच सम्बन्ध को बेहतरीन ढंग से दर्शाता है ?

- (A)   
(B)   
(C)   
(D) 

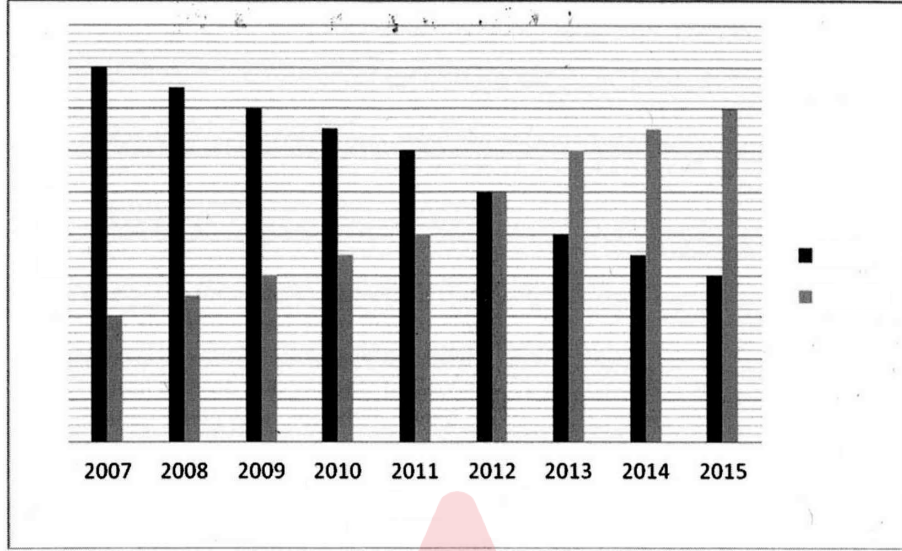
78. निम्नांकित रेखाचित्रों में से कौनसा रेखाचित्र भारतीयों, आदमियों और यात्रियों के बीच रिश्ते को बेहतरीन ढंग से दर्शाता है ?

- (A)   
(B)   
(C)   
(D) 

79. चार व्यक्ति A, B, C और D उत्तर दिशा की ओर मुँह करके एक लाइन में खड़े हैं। एक मिनट के लिए उनको उसी स्थान पर यादृच्छिक गति से स्वतंत्र रूप में कूदने को कहा जाता है; दक्षिणावर्त (दाएँ) और वामावर्त (बाएँ)। इनमें से किस व्यक्ति का मुँह एक मिनट के व्यायाम के बाद उत्तर दिशा की ओर होगा ?
- (A) बाएँ, दाएँ, दाएँ, बाएँ, बाएँ, बाएँ, दाएँ, दाएँ, बाएँ  
 (B) दाएँ, बाएँ, दाएँ, दाएँ, बाएँ, बाएँ, बाएँ, बाएँ, दाएँ, बाएँ  
 (C) बाएँ, बाएँ, दाएँ, दाएँ, बाएँ, बाएँ, बाएँ, बाएँ, दाएँ, दाएँ  
 (D) दाएँ, बाएँ, दाएँ, दाएँ, बाएँ, बाएँ, बाएँ, बाएँ, दाएँ, दाएँ
80. दो कथन दिए हुए हैं :
- (i) कुछ अध्यापक वैज्ञानिक हैं।  
 (ii) सभी वैज्ञानिक स्वप्नदर्शी हैं।  
 इन कथनों से क्या परिणाम निकाले जा सकते हैं ?
- (C1) अध्यापक स्वप्नदर्शी हो सकते हैं।  
 (C2) कोई वैज्ञानिक अध्यापक नहीं हो सकता  
 (A) केवल (C1) परिणाम निकलता है।  
 (B) केवल (C2) परिणाम निकलता है।  
 (C) न (C1) और न ही (C2) परिणाम निकलता है।  
 (D) (C1) और (C2) दोनों परिणाम निकलते हैं।
81. दो कथन दिए हुए हैं :
- (i) कुछ हाथी बिल्लियाँ हैं।  
 (ii) कुछ बिल्लियाँ कुत्ते हैं।  
 इन कथनों से क्या परिणाम निकाला जा सकता है ?
- (C1) कुछ हाथी कुत्ते हैं।  
 (C2) कुछ कुत्ते हाथी हैं।  
 (A) केवल (C1) परिणाम निकलता है। (B) या (C1) या (C2) परिणाम निकलता है।  
 (C) न (C1) न (C2) परिणाम निकलता है। (D) या दोनों या कोई भी परिणाम नहीं निकलता
82. तीन कथन दिए हुए हैं :
- (i) सभी शेर कीवी हैं।  
 (ii) सभी कीवी पक्षी हैं।  
 (iii) कुछ भेड़िये पक्षी हैं।  
 इन कथनों से क्या परिणाम निकाले जा सकते हैं ?
- (C1) कुछ पक्षी शेर हैं।  
 (C2) कुछ भेड़िये पक्षी हैं।  
 (C3) कीवी या तो शेर हैं या भेड़िये।  
 (A) केवल (C1) (B) केवल (C2)  
 (C) केवल (C1) और (C2) (D) केवल (C1) और (C3)

निर्देश (प्रश्न सं. 83–85) :

निम्नांकित रेखाचित्र कई वर्षों के दौरान कॉलेज में दाखिल किए पुरुष और स्त्री विद्यार्थियों की संख्या के विषय में सूचना प्रदान करता है :



83. किस वर्ष में स्त्री विद्यार्थियों की संख्या पुरुष विद्यार्थियों से दुगुनी थी और/अथवा इसके विपरीत ?
- (A) 2008 और 2014  
(B) 2008 और 2015  
(C) 2009 और 2015  
(D) 2009 और 2014
84. किस वर्ष में स्त्री विद्यार्थियों के दाखिले में अधिकतम प्रतिशत वृद्धि पिछले वर्ष की तुलना में रजिस्टर हुई ?
- (A) 2007  
(B) 2009  
(C) 2012  
(D) 2015
85. यदि कॉलेज में दाखिल किए जाने वाले विद्यार्थियों की कुल संख्या पिछले वर्षों में निश्चित है और स्त्री विद्यार्थियों की दाखिला संख्या हमेशा 150 है, तो कॉलेज में सीटों की कुल संख्या क्या हो सकती है ?
- (A) 400  
(B) 500  
(C) 600  
(D) 700

निर्देश (प्रश्न सं. 86–88) :

पाँच कज़न पार्टी के लिए बाहर जा रहे हैं। प्रबन्धक चाहते हैं कि समूह-अनुसार प्रवेश में सबसे छोटे को घटना-स्थान में पहले प्रवेश करना चाहिए और उसके बाद अगले छोटे व्यक्ति को, इत्यादि। ईशान कहता है, “मैं चंद्र से दो वर्ष छोटा हूँ।” फतह कहता है, “मैं अरविंद से एक वर्ष बड़ा हूँ।” जबकि चंद्र कहता है, “मैं फतह से तीन वर्ष बड़ा हूँ।” गरीश कहता है, “मैं ईशान से छोटा परन्तु फतह से बड़ा हूँ।”

86. पहले कौन प्रवेश करेगा ?

- (A) अरविंद
- (B) चंद्र
- (C) फतह
- (D) उत्तर देने के लिए डाटा पर्याप्त नहीं है।

87. आखिरी में कौन प्रवेश करेगा ?

- (A) चंद्र
- (B) ईशान
- (C) फतह
- (D) उत्तर देने के लिए डाटा पर्याप्त नहीं है।

88. निम्नांकित कथनों में से कौनसा कथन सही है ?

- (A) गरीश अरविंद से तीन वर्ष बड़ा है।
- (B) फतह ईशान से दो वर्ष छोटा है।
- (C) फतह गरीश से तीन वर्ष छोटा है।
- (D) ईशान अरविंद से दो वर्ष बड़ा है।

निर्देश (प्रश्न सं. 89–90) :

प्रतियोगिता में टीम भेजने के लिए, चार विद्यार्थियों में से एक का चयन करने के लिए, पिछले छः परीक्षणों में उनके प्राप्तांकों पर निम्नांकित डाटा का प्रयोग किया गया था :

	S1	S2	S3	S4
1	42	36	72	54
2	58	63	51	49
3	76	51	43	51
4	24	57	28	48
5	45	43	61	46
6	55	50	45	52

89. प्राप्तांकों में भिन्नताओं की हालत में, कौनसा विद्यार्थी क्रमशः सबसे अधिक संगत और सबसे अधिक असंगत देखा गया था ?
- (A) S1,S4  
(B) S4,S2  
(C) S3,S1  
(D) S4,S1
90. निम्नांकित कौनसा कथन सही है ?
- (A) S4 के दूसरों से निम्नांकित औसत प्राप्तांक हैं, परन्तु वह अधिक संगत है।  
(B) S1 के दूसरों से उच्च औसत प्राप्तांक हैं, परन्तु वह अधिक असंगत है।  
(C) S4 के दूसरों से उच्च औसत प्राप्तांक हैं और वह सब से अधिक संगत है।  
(D) उपर्युक्त तीनों कथनों में से कोई भी सही नहीं है।

**PUNJABI**

(Q.Nos. : **1** to **90**)

Adda247



1. 2011 ਦੀ ਜਨ-ਗਣਨਾ ਅਨੁਸਾਰ, ਪੰਜਾਬ ਵਿਚ ਜਨਸੰਖਿਆ ਘਣਤਵ ਸੀ :  
 (A) 484/sq km. (B) 550/sq km.  
 (C) 503/sqkm (D) 525/sq km.
2. ਪੰਜਾਬ ਦਾ ਸਭ ਤੋਂ ਵੱਡਾ ਜ਼ਿਲਾ ਕਿਹੜਾ ਹੈ :  
 (A) ਹੁਸ਼ਿਆਰਪੁਰ (B) ਜਲੰਧਰ  
 (C) ਅਮ੍ਰਿਤਸਰ (D) ਲੁਧਿਆਨਾ
3. 1950 ਤੋਂ ਬਾਅਦ ਪੰਜਾਬ ਵਿਚ ਰਾਸ਼ਟਰਪਤੀ ਸ਼ਾਸਨ ਕਿੰਨੀ ਵਾਰ ਲਗਾਇਆ ਗਿਆ ਹੈ :  
 (A) 4 (B) 6  
 (C) 8 (D) 7
4. 'ਨੰਗੇ ਪੈਰਾਂ ਦਾ ਸਫ਼ਰ' ਦਾ ਲੇਖਕ ਕੌਣ ਹੈ :  
 (A) ਦਲੀਪ ਕੌਰ ਟਿਵਾਣਾ (B) ਗੁਰਪ੍ਰੀਤ ਸਿੰਘ ਪ੍ਰੀਤਲੜੀ  
 (C) ਸੁਰਜੀਤ ਪਾਤਰ (D) ਅਮ੍ਰਿਤਾ ਪ੍ਰੀਤਮ
5. ਪੰਜਾਬ ਦੀਆਂ ਰਾਸ਼ਟਰੀ ਸੀਮਾਵਾਂ ਕਿਸ ਨਾਲ ਲਗਦੀਆਂ ਹਨ :  
 (A) ਜਮੂ-ਕਸ਼ਮੀਰ, ਹਿਮਾਚਲ ਪ੍ਰਦੇਸ਼, ਹਰਿਆਣਾ ਅਤੇ ਰਾਜਸਥਾਨ  
 (B) ਦਿੱਲੀ, ਹਿਮਾਚਲ ਪ੍ਰਦੇਸ਼, ਹਰਿਆਣਾ ਅਤੇ ਰਾਜਸਥਾਨ  
 (C) ਯੂਪੀ, ਹਰਿਆਣਾ, ਰਾਜਸਥਾਨ ਅਤੇ ਹਿਮਾਚਲ ਪ੍ਰਦੇਸ਼  
 (D) ਐਮਪੀ, ਹਿਮਾਚਲ ਪ੍ਰਦੇਸ਼, ਹਰਿਆਣਾ ਅਤੇ ਰਾਜਸਥਾਨ
6. ਭਾਰਤ ਦਾ ਕੇਵਲ ਇਕੋ ਇਕ ਰਾਜ ਜਿਸ ਦਾ ਕ੍ਰਿਆਸ਼ੀਲ ਅਤੇ ਲਾਗੂ ਸਾਂਝਾ ਸਿਵਿਲ ਕੋਡ ਹੈ, ਉਹ ਰਾਜ ਹੈ :  
 (A) ਸਿੱਕਿਮ (B) ਗੋਆ  
 (C) ਅਰੁਣਾਚਲ ਪ੍ਰਦੇਸ਼ (D) ਅਸਮ
7. ਭੁਚਾਲ ਦਾ ਕੀ ਕਾਰਨ ਹੈ :  
 (A) ਵਿਵਰਤਨਿਕ (B) ਨੰਗਾਕਰਨ  
 (C) ਪ੍ਰਿਥਵੀ ਦੀ ਉਥਲ-ਪੁਥਲ (D) ਪ੍ਰਿਥਵੀ ਦਾ ਚੱਕਰ-ਕ੍ਰਮ
8. ਉਹ ਵਿਅਕਤੀ ਜਿਸ ਦੇ ਹੇਠਾਂ ਦਿੱਤੇ ਰਕਤ-ਵਰਗ ਕਿਸੇ ਵੀ ਵਰਗ ਦਾ ਰਕਤ ਲੈ ਸਕਦੇ ਹਨ :  
 (A) A (B) B  
 (C) AB (D) O

9. ਭਾਰਤ ਦਾ ਰਾਸ਼ਟਰਪਤੀ, ਰਾਜ ਸਭਾ ਵਿਚ ਕਿੰਨੇ ਮੈਂਬਰ ਨਾਮਜ਼ਦ ਕਰ ਸਕਦਾ ਹੈ :
- (A) 5 (B) 12  
(C) 10 (D) 8
10. ਰਾਸ਼ਟਰਗਾਨ ਦੇ ਪੂਰਨ ਪਾਠ ਦਾ ਵਾਦਨ ਸਮਾਂ ਹੈ :
- (A) 32 ਸਕਿੰਟ (B) 44 ਸਕਿੰਟ  
(C) 55 ਸਕਿੰਟ (D) 52 ਸਕਿੰਟ
11. G.D.R. ਦਾ ਮਤਲਬ ਹੈ :
- (A) Gross Domestic Ratio (B) Global Depository Receipt  
(C) Global Development Range (D) Geographically Developed Region
12. ਤਪਦਿਕ ਕਿਸ ਨਾਲ ਹੁੰਦਾ ਹੈ :
- (A) ਜੀਵਾਣੂ (B) ਵਿਸ਼ਾਣੂ  
(C) ਫਰੈਂਦੀ (D) ਉਪਰੋਕਤ ਵਿਚੋਂ ਕੋਈ ਵੀ ਨਹੀਂ ਹੈ
13. NEFT ਦਾ ਮਤਲਬ ਹੈ :
- (A) National Emblem and Fund Token  
(B) Negotiated Easy Funds Transfer  
(C) National Economic Funds Transfer  
(D) National Electronic Funds Transfer
14. ਭਾਰਤ ਵਿਚ ਸੰਪੱਤੀ ਪੁਨਰ-ਨਿਰਮਾਨ ਕੰਪਨੀਆਂ ਕਿਸ ਨਾਲ ਸੰਬੰਧਿਤ ਹਨ :
- (A) ਅਲਪਕਾਲੀ ਕਰਜ਼ੇ (B) ਆਧਾਰ-ਭੂਤ ਸੰਰਚਨਾ ਫੰਡ  
(C) ਗੈਰ-ਪ੍ਰਦਰਸ਼ਨ ਸੰਪੱਤੀਆਂ (D) ਨਿਵੇਸ਼
15. ਜਿਹੜੀਆਂ ਮੱਦਾਂ GST ਦੇ ਅੰਤਰਗਤ ਨਹੀਂ ਹਨ :
- (A) ਅਲਕੋਹਲ, ਸੋਨਾ ਅਤੇ ਪੈਟਰੋਲੀਅਮ ਉਤਪਾਦ  
(B) ਅਲਕੋਹਲ, ਬਿਜਲੀ ਅਤੇ ਪੈਟਰੋਲੀਅਮ ਉਤਪਾਦ  
(C) ਅਲਕੋਹਲ, ਬਿਜਲੀ ਅਤੇ ਜਾਇਦਾਦ  
(D) ਅਲਕੋਹਲ, ਦਵਾਈਆਂ ਅਤੇ ਬਿਜਲੀ
16. ਇਹ ਭਾਰਤੀ ਮੂਲ ਦੇ ਕਿਹੜੇ ਕੈਨੇਡੀਅਨ ਯੂਟਿਲਿਟੀ ਸਟਾਰ ਨੂੰ UNICEF ਦਾ ਵਿਸ਼ਵਵਿਆਪੀ ਸਦਭਾਵਨਾ ਰਾਜਦੂਤ ਨਿਯੁਕਤ ਕੀਤਾ ਗਿਆ ਹੈ :
- (A) ਗੁਲਜ਼ਾਰ ਸਿੰਘ ਚੀਮਾ (B) ਰੂਬੀ ਢਾਲੀਆ  
(C) ਲਿਲੀ ਸਿੰਘ (D) ਨੀਨਾ ਗਰੇਵਾਲ

17. ਯਾਤਰੀਆ ਵਾਸਤੇ ਰੇਲ ਮੰਤਰੀ ਵਲੋਂ ਸ਼ੁਰੂ ਕੀਤੇ ਨਵੇਂ ਇੰਟੈਗਰੇਟਿਡ ਮੋਬਾਈਲ ਐਪ ਦਾ ਕੀ ਨਾਮ ਹੈ :
- (A) ਰੇਲ ਸਾਥੀ (B) ਰੇਲ ਹਮਸਫਰ  
(C) ਰੇਲ ਮੁਸਾਫ਼ਿਰ (D) ਰੇਲ ਸਾਰਥੀ
18. ਕਿਹੜੀ ਟੈਲੀਕੋਮ ਕੰਪਨੀ ਨੇ 330 ਕੋੜ 100 ਜੀ ਐਪਟੀਕਲ ਟ੍ਰਾਂਸਪੋਰਟ ਨੈਟਵਰਕ (NG-OTN) ਆਰੰਭ ਕੀਤਾ ਹੈ :
- (A) MTNL (B) ਏਅਰਟੈਲ  
(C) BSNL (D) ਆਈਡੀਆ
19. ਐਮ ਐਲ ਨਿਜਲਿਗੱਪਾ ਦਾ ਕੀ ਰੈਂਕ ਹੈ ਜਿਸ ਨੇ ਐਂਬੂਲੈਂਸ ਵਾਸਤੇ ਰਾਸ਼ਟਰਪਤੀ ਦੇ ਰੱਖਿਅਕ ਬੇੜੇ ਨੂੰ ਰੋਕਿਆ ਸੀ :
- (A) ਇਨਸਪੈਕਟਰ (B) ਕੋਨਸਟੇਬਲ  
(C) ਡੀ ਐਸ ਪੀ (D) ਸਬ ਇਨਸਪੈਕਟਰ
20. ਕਿਹੜੇ ਮੰਤ੍ਰਾਲੇ ਨੇ ਸਟਾਰਟ ਐਪ ਇੰਡੀਆ ਹੱਥ ਸ਼ੁਰੂ ਕੀਤੀ ਹੈ :
- (A) ਵਨਿਜ ਅਤੇ ਉਦਯੋਗ ਮੰਤ੍ਰਾਲਾ (B) ਗ੍ਰਹਿ ਮਾਮਲਾ ਮੰਤ੍ਰਾਲਾ  
(C) ਰੱਖਿਆ ਮੰਤ੍ਰਾਲਾ (D) ਵਿੱਤ ਮੰਤ੍ਰਾਲਾ
21. 'ਜੈ ਜਵਾਨ ਜੈ ਕਿਸਾਨ' ਦਾ ਨਾਅਰਾ ਕਿਸ ਨੇ ਦਿੱਤਾ ਸੀ :
- (A) ਲਾਲ ਬਹਾਦੁਰ ਸ਼ਾਸਤਰੀ (B) ਸ਼੍ਰੀਮਤੀ ਇੰਦਰਾ ਗਾਂਧੀ  
(C) ਮਹਾਤਮਾ ਗਾਂਧੀ (D) ਜਵਾਹਰ ਲਾਲ ਨਹਿਰੂ
22. ਭਾਰਤ ਦਾ ਗੁਲਾਬੀ ਸ਼ਹਿਰ ..... ਨੂੰ ਆਖਿਆ ਜਾਂਦਾ ਹੈ :
- (A) ਕਰਨਾਲ (B) ਜੈਪੁਰ  
(C) ਜਾਮਨਗਰ (D) ਇਲਾਹਾਬਾਦ
23. ਭਾਰਤ ਦਾ ਰਾਸ਼ਟਰ ਗੀਤ 'ਵੰਦੇ ਮਾਤ੍ਰਮ' ਬੰਕਿਮ ਚੰਦਰ ਚੈਟਰਜੀ ਦੀ ਕਿਹੜੀ ਪੁਸਤਕ ਵਿੱਚੋਂ ਲਿਆ ਗਿਆ ਹੈ :
- (A) ਕਪਾਲ ਕੁੰਡਲ (B) ਵਿਸ਼ ਵਿਕ੍ਰਮ  
(C) ਦੁਰਗੋਸ਼ ਨੰਦਿਨੀ (D) ਆਨੰਦ ਮੱਠ

24. ਐਲਫ਼ੈਡ ਨੋਬੇਲ, ਨੋਬੇਲ ਪ੍ਰਾਈਜ਼ ਦਾ ਸੰਸਥਾਪਕ, ਨੂੰ ਕਿਸ ਨਾਲ ਸੰਬੰਧਿਤ ਕੀਤਾ ਜਾਂਦਾ ਹੈ :
- (A) ਅੰਤਰਿਕਸ਼ ਕਿਰਨਾਂ (B) ਡਾਇਨਾਮਾਈਟ  
(C) ਡਾਇਨਮੋ (D) ਸੇਫਟੀ ਪਿਨ
25. ਕਿਹੜਾ ਮੁਢਲਾ ਰੰਗ ਨਹੀਂ ਹੈ :
- (A) ਨੀਲਾ (B) ਹਰਾ  
(C) ਲਾਲ (D) ਕਾਲਾ
26. ਲੋਂਗ ਕਿਸ ਤੋਂ ਪ੍ਰਾਪਤ ਕੀਤਾ ਜਾਂਦਾ ਹੈ :
- (A) ਫੁੱਲ (B) ਜੜ੍ਹ  
(C) ਤਣਾ (D) ਪੱਤੇ
27. ਭਾਰਤ ਦੀ ਸਭ ਤੋਂ ਪੁਮਟੀ ਤੇਲ ਰੀਫਾਇਨਰੀ ਹੈ :
- (A) ਹਾਲਦੀਆ (B) ਡਿਗਬੋਈ  
(C) ਬੜੋਦਾ (D) ਮੁੰਬਈ
28. DRDO 'ਨਿਸ਼ਾਂਤ' ਹੈ :
- (A) ਲੜਾਕਾ ਹਵਾਈ ਜਹਾਜ਼  
(B) ਪਾਇਲਟ-ਰਹਿਤ ਟੀਚਾ ਹਵਾਈ ਜਹਾਜ਼  
(C) ਸਤਹ ਤੋਂ ਹਵਾ ਤਕ ਅਸਤਰ  
(D) ਮਾਨਵ-ਰਹਿਤ ਹਵਾਈ ਵਾਹਣ
29. 'Land of Midnight Sun' ਦਾ ਨਾਂ ਕਿਸ ਨੂੰ ਦਿੱਤਾ ਹੈ :
- (A) ਨੋਰਵੇ (B) ਸਵੀਡਨ  
(C) ਡੈਨਮਾਰਕ (D) ਡਬਲਿਨ
30. OPEC ਦਾ ਪੂਰਨ ਰੂਪ ਹੈ :
- (A) Organisation of Petroleum Exporting Corporations  
(B) Overseas Petroleum Exporting Countries  
(C) Overseas Petroleum Exporting Commission  
(D) Organisation of Petroleum Exporting Countries

31. 'ਜੇ ਤੁਸੀਂ ਸਕੂਲ ਖੋਲ੍ਹਦੇ ਹੋ, ਤਾਂ ਤੁਸੀਂ ਕੈਦਖਾਨਾ ਬੰਦ ਕਰਦੇ ਹੋ।' ਇਸ ਦਾ ਮਤਲਬ ਹੈ :
- (A) ਸਕੂਲ ਉਸ ਜ਼ਮੀਨ ਉੱਪਰ ਬਣਾਏ ਜਾਂਦੇ ਹਨ ਜਿਥੇ ਕੈਦਖਾਨੇ ਸਨ  
(B) ਸਿਖਿਆ ਦਾ ਪ੍ਰਸਾਰ ਅਪਰਾਧ ਨੂੰ ਖ਼ਤਮ ਕਰਦਾ ਹੈ  
(C) ਸਕੂਲੀ ਬੱਚੇ ਕੈਦਖਾਨੇ ਦੀਆਂ ਇਮਾਰਤਾਂ ਉੱਪਰ ਪੱਥਰ ਮਾਰਦੇ ਹਨ  
(D) ਸਕੂਲ ਦੀ ਉਦਘਾਟਨੀ ਰਸਮ ਕੈਦਖਾਨਾ ਅਧਿਕਾਰੀਆਂ ਨੂੰ ਬਹੁਤ ਸੰਤਾਪ ਅਤੇ ਦੁੱਖ ਪਹੁੰਚਾਉਂਦੀ ਹੈ
32. ਚੰਗਾ ਅਧਿਆਪਕ ਉਹ ਹੁੰਦਾ ਹੈ ਜਿਹੜਾ :
- (A) ਉਪਯੋਗੀ ਸੂਚਨਾ ਪ੍ਰਦਾਨ ਕਰਦਾ ਹੈ  
(B) ਧਾਰਨਾਵਾਂ ਅਤੇ ਸਿਧਾਂਤਾਂ ਦੀ ਵਿਆਖਿਆ ਕਰਦਾ ਹੈ  
(C) ਵਿਦਿਆਰਥੀਆਂ ਨੂੰ ਛਪਾਏ ਨੋਟਸ ਦਿੰਦਾ ਹੈ  
(D) ਵਿਦਿਆਰਥੀਆਂ ਨੂੰ ਸਿੱਖਣ ਲਈ ਪ੍ਰੇਰਣਾ ਹੈ
33. ਸਿਖਿਆ ਵਿਧਾਨ ਦੇ ਵਿਸ਼ੇ ਵੱਲੋਂ ਕਿਸ ਵਿਚ ਸੂਚੀਬੱਧ ਹੈ :
- (A) ਸੰਘ ਸੂਚੀ (B) ਰਾਜ ਸੂਚੀ  
(C) ਸਮਵਰਤੀ ਸੂਚੀ (D) ਅਣਵਰਤੇ ਅਧਿਕਾਰ
34. ਪਰੰਪਰਾਗਤ ਸਕੂਲਾਂ ਅਤੇ ਖੁਲ੍ਹੇ ਸਿਖਿਆ-ਪ੍ਰਾਪਤੀ ਸਕੂਲਾਂ ਵਿਚਕਾਰ ਬੁਨਿਆਦੀ ਫ਼ਰਕ ਹੈ ਕਿ :
- (A) ਪਹਿਲੇ ਵਿਵਸਥਿਤ ਹਨ  
(B) ਦੂਜੇ ਸਭਿਆਚਾਰਕ ਮੁੱਲਾਂ ਨੂੰ ਅੱਗੇ ਵਧਾਉਂਦੇ ਹਨ  
(C) ਦੂਜੇ ਆਧੁਨਿਕ ਗੈਜ਼ਟਾਂ ਦੀ ਵਰਤੋਂ ਕਰਦੇ ਹਨ  
(D) ਪਹਿਲੇ ਵਿਚ ਨਿਜੀ ਲਗਾਉ ਹੁੰਦੀ ਹੈ
35. ਅਧਿਆਪਕ ਦਾ ਕਲਾਸ-ਰੂਮ ਵਿਵਹਾਰ ਚੰਗਾ ਹੋਣਾ ਚਾਹੀਦਾ ਹੈ ਕਿਉਂਕਿ :
- (A) ਇਹ ਇਕ ਮਿਸਾਲ ਕਾਇਮ ਕਰੇਗਾ  
(B) ਵਿਦਿਆਰਥੀ ਵਧੇਰੇ ਸਾਵਧਾਨ ਹੋਣਗੇ  
(C) ਵਾਤਾਵਰਨ ਸਿਖਿਆ-ਪ੍ਰਾਪਤੀ ਦੇ ਅਨੁਕੂਲ ਹੋਵੇਗਾ  
(D) ਵਿਦਿਆਰਥੀ ਇਸ ਦੀ ਤਾਰੀਫ਼ ਕਰਨਗੇ
36. ਅਧਿਆਪਨ ਏਡਜ਼ ਉਪਯੋਗੀ ਹਨ ਕਿਉਂਕਿ ਇਹ :
- (A) ਅਧਿਆਪਕ ਦੇ ਕੰਮ ਵਿਚ ਸਹਾਇਤਾ ਕਰਦੀਆਂ ਹਨ  
(B) ਸਾਰੀਆਂ ਇੰਦਰੀਆਂ ਨੂੰ ਕ੍ਰਿਆਸ਼ੀਲ ਬਣਾਉਂਦੀਆਂ ਹਨ  
(C) ਵਿਦਿਆਰਥੀਆਂ ਨੂੰ ਸਾਵਧਾਨ ਹੋਣ ਵਿਚ ਸਹਾਇਤਾ ਕਰਦੀਆਂ ਹਨ  
(D) ਸਿਖਿਆ-ਪ੍ਰਾਪਤੀ ਨੂੰ ਵਧੇਰੇ ਸਾਰਥਕ ਬਣਾਉਂਦੀਆਂ ਹਨ

37. ਅਧਿਆਪਕ ਸਿਖਿਆ ਲਈ ਕਿਹੜਾ ਨਿਯਮਕ ਨਿਕਾਇ ਹੈ :
- (A) NCTE (B) NCERT  
(C) UGC (D) CABE
38. ਵਿਦਿਆਰਥੀਆਂ ਨੂੰ ਕਲਾਸ ਵਿਚ ਕ੍ਰਿਆਸ਼ੀਲ ਅਤੇ ਸਾਵਧਾਨ ਕੀ ਬਨਾਉਂਦਾ ਹੈ :
- (A) ਪ੍ਰਭਾਵਸ਼ਾਲੀ ਲੈਕਚਰ (B) ਅਧਿਆਪਨ-ਸਿੱਖਣ ਪ੍ਰਕ੍ਰਿਆ ਵਿਚ ਵੰਨਗੀ  
(C) ਉਦਾਹਰਨਾਂ (D) ਰੰਗੀਨ ਰੇਖਾਚਿੱਤਰ
39. ਅਧਿਆਪਨ ਦਾ ਪਰਿਣਾਮ ਕਿਸ ਵਿਚ ਨਿਕਲਦਾ ਹੈ :
- (A) ਸਿਖਿਆ-ਪ੍ਰਾਪਤੀ (B) ਪ੍ਰੇਰਕਤਾ  
(C) ਆਤਮ-ਸਿੱਧੀ (D) ਆਤਮ-ਉਪਲਬਧੀ
40. ਲਾਇਬ੍ਰੇਰੀ ਵਿਚ ਪੁਸਤਕਾਂ ਨੂੰ ਰੱਖਣਾ ਚਾਹੀਦਾ ਹੈ :
- (A) ਤਾਲੇ ਵਿਚ (B) ਖੁਲੀ ਪਹੁੰਚ ਵਿਵਸਥਾ ਅਨੁਸਾਰ  
(C) ਬੇਤਰਤੀਬੇ ਢੰਗ ਨਾਲ (D) ਵਿਦਿਆਰਥੀਆਂ ਦੀ ਪਹੁੰਚ ਤੋਂ ਪਰੇ
41. ਤੁਸੀਂ ਵਿਦਿਆਰਥੀਆਂ ਨੂੰ ਲਾਇਬ੍ਰੇਰੀ ਦੀ ਵਰਤੋਂ ਕਰਨ ਲਈ ਕਿਵੇਂ ਉਤਸਾਹਿਤ ਕਰੋਗੇ :
- (A) ਉਨ੍ਹਾਂ ਨੂੰ ਪੁਸਤਕਾਂ ਦਾ ਮਹੱਤਵ ਸਮਝਾ ਕੇ  
(B) ਵਿਦਿਆਰਥੀਆਂ ਨੂੰ ਕੁਝ ਪੁਸਤਕਾਂ ਘਰ ਵਿਚ ਪੜ੍ਹਨ ਲਈ ਦੇਣਾ  
(C) ਲੰਬੀਆਂ ਛੁੱਟੀਆਂ / ਛੁੱਟੀਆਂ ਵਿਚ ਵਿਦਿਆਰਥੀਆਂ ਨੂੰ ਲਾਇਬ੍ਰੇਰੀ ਲਿਦਾਣਾ  
(D) ਆਪਣੇ ਆਪ ਵਿਦਿਆਰਥੀਆਂ ਨਾਲ ਲਾਇਬ੍ਰੇਰੀ ਵਿਚ ਜਾ ਕੇ ਪੜ੍ਹਨਾ
42. ਵਿਦਿਆਰਥੀਆਂ ਨੂੰ ਲਾਇਬ੍ਰੇਰੀ ਵਿਚੋਂ ਪੁਸਤਕਾਂ ..... ਸਮੇਂ ਲਈ ਦੇਣੀਆਂ ਚਾਹੀਦੀਆਂ ਹਨ
- (A) ਅਸੀਮਿਤ ਸਮੇਂ ਲਈ  
(B) ਕੁਝ ਵਿਸ਼ੇਸ਼ ਨਿਸ਼ਚਿਤ ਦਿਨਾਂ ਵਾਸਤੇ  
(C) ਜਿੰਨੀ ਦੇਰ ਵਿਦਿਆਰਥੀ ਇੱਥਾਂ ਨੂੰ ਰੱਖਣਾ ਚਾਹੁਣ  
(D) ਇਹ ਜ਼ਰੂਰੀ ਨਹੀਂ ਕਿ ਵਿਦਿਆਰਥੀਆਂ ਨੂੰ ਪੁਸਤਕਾਂ ਇਸ਼ੂ ਕੀਤੀਆਂ ਜਾਣ
43. 6 ਤੋਂ 14 ਸਾਲਾਂ ਦੀ ਉਮਰ ਦੇ ਬੱਚਿਆਂ ਲਈ ਮੁਫਤ ਅਤੇ ਲਾਜ਼ਮੀ ਸਿਖਿਆ ਦੇ ਅਧਿਕਾਰ ਨੂੰ ਭਾਰਤੀ ਸੰਵਿਧਾਨ ਵਿਚ ਕਿਸ ਦੇ ਤੌਰ ਤੇ ਸ਼ਾਮਿਲ ਕੀਤਾ ਗਿਆ ਹੈ :
- (A) ਅਨੁਛੇਦ 46 (B) ਅਨੁਛੇਦ 16  
(C) ਅਨੁਛੇਦ 45 (D) ਅਨੁਛੇਦ 21
44. ਵਿਕਸਿਤ ਅਧਿਐਨ ਦੀ ਭਾਰਤੀ ਸੰਸਥਾ ਕਿਥੇ ਸਥਿਤ ਹੈ :
- (A) ਧਰਮਸ਼ਾਲਾ (B) ਸ਼ਿਮਲਾ  
(C) ਸੋਲਨ (D) ਚੰਡੀਗੜ੍ਹ

45. ਸਿਖਿਆ ਦੇਣ ਅਤੇ ਮਹੱਤਵਪੂਰਨ ਰਾਸ਼ਟਰੀ ਪ੍ਰੋਗ੍ਰਾਮ (SSA) ਦਾ ਮੰਤਵ ਹੈ :
- (A) ਮੁਢਲੀ ਸਿਖਿਆ ਦਾ ਵਿਆਪਕੀਕਰਨ (B) ਗੌਟ ਸਿਖਿਆ ਦਾ ਵਿਆਪਕੀਕਰਨ  
(C) ਪ੍ਰਾਇਮਰੀ ਸਕੂਲਾਂ ਵਿਚ ਵਿਸ਼ੇਸ਼ ਸਿਖਿਆ (D) ਵਿਸ਼ੇਸ਼ ਗੌਟ ਅਕਾਦਮਿਕ ਪ੍ਰੋਗ੍ਰਾਮ
46. ਆਂਤਰਿਕ ਮੁਲਾਂਕਣ ਦਿੱਛਿਤ ਹੈ ਕਿਉਂਕਿ
- (A) ਇਹ ਸਮੁੱਚੇ ਪ੍ਰਾਪਤ-ਅੰਕਾਂ ਦੇ ਸੁਧਾਰ ਵਿਚ ਮਦਦ ਕਰਦਾ ਹੈ  
(B) ਇਹ ਵਿਦਿਆਰਥੀਆਂ ਦੇ ਮਨਾਂ ਵਿਚ ਡਰ ਪੈਦਾ ਕਰਦਾ ਹੈ  
(C) ਇਹ ਸਮੁੱਚੇ ਸੈਸ਼ਨ ਦੌਰਾਨ ਕਲਾਸਰੂਮ ਪ੍ਰਦਰਸ਼ਨ ਨੂੰ ਮਹੱਤਵ ਦਿੰਦਾ ਹੈ  
(D) ਇਹ ਅਧਿਆਪਕ ਨੂੰ ਵਧੇਰੇ ਸ਼ਕਤੀਸ਼ਾਲੀ ਬਣਾਉਂਦਾ ਹੈ
47. ਸਕੂਲ ਕਿਸ ਦਾ ਲਘੂ ਰੂਪ ਹੈ :
- (A) ਸਮਾਜ (B) ਪਰਿਵਾਰ  
(C) ਰਾਜ (D) ਕਲੱਬ
48. ਬੱਚੇ ਦੀ ਸਰਬਪੱਖੀ ਵਿਧੀ ਅਤੇ ਵਿਕਾਸ ਦਾ ਮਤਲਬ ਹੈ :
- (A) ਘਰ ਅਤੇ ਸਕੂਲ ਦਾ ਵਿਕਾਸ  
(B) ਸ਼ਰੀਰ ਦੇ ਵਿਭਿੰਨ ਅੰਗਾਂ ਦਾ ਵਿਕਾਸ  
(C) ਬੱਚੇ ਦੇ ਸ਼ਰੀਰ, ਮਨ ਅਤੇ ਰੂਹ ਵਿਚ ਬੇਹਤਰੀਨ ਦਾ ਵਿਕਾਸ  
(D) ਚੰਗੀਆ ਆਦਤਾਂ ਦਾ ਵਿਕਾਸ
49. ਤੁਹਾਡੀ ਜਮਾਤ ਵਿਚ ਬੱਚਾ ਅਕਸਰ ਚੋਰੀ ਕਰਦਾ ਹੈ, ਤੁਸੀਂ ਉਸ ਨੂੰ ਕਿਵੇਂ ਸੰਭਾਲੋਗੇ :
- (A) ਉਸ ਨੂੰ ਮਿਸਾਲੀ ਸਜ਼ਾ ਦੇਵਾਂਗਾ  
(B) ਵਿਦਿਆਰਥੀ ਨੂੰ ਧਮਕੀ ਦੇਵਾਂਗਾ ਕਿ ਉਸ ਨੂੰ ਸਕੂਲ ਵਿੱਚੋਂ ਕੱਢ ਦਿੱਤਾ ਜਾਵੇਗਾ  
(C) ਇਸ ਪ੍ਰਕਾਰ ਦੇ ਵਿਹਾਰ ਪਿਛੇ ਕਾਰਨ ਜਾਣਨ ਦੀ ਕੋਸ਼ਿਸ਼ ਕਰਾਂਗਾ ਅਤੇ ਨਿਵਾਰਕ ਕਦਮ ਚੁਨਾਂਗਾ  
(D) ਵਿਦਿਆਰਥੀ ਨੂੰ ਪੁਲਿਸ ਦੇ ਹਵਾਲੇ ਕਰਾਂਗਾ
50. OHP ਦਾ ਮਤਲਬ ਹੈ :
- (A) Over Hearing Programme (B) Official Housing Project  
(C) Over Head Projector (D) Open House Programme
51. ਅਧਿਆਪਕ ਨੂੰ ਆਪਣੇ ਸਾਥੀਆਂ ਨਾਲ ਕਿਵੇਂ ਵਿਹਾਰ ਕਰਨਾ ਚਾਹੀਦਾ ਹੈ :
- (A) ਉਚਿਤ ਸ਼ਿਸ਼ਟਾਚਾਰ ਅਤੇ ਸਤਿਕਾਰ ਨਾਲ (B) ਨਫ਼ਰਤ ਨਾਲ  
(C) ਪਿਆਰ ਅਤੇ ਸਨੇਹ ਨਾਲ (D) ਤਣਾਅ ਅਤੇ ਚੁਗਲਖੋਰੀ ਨਾਲ
52. P.T.A. ਦਾ ਪੂਰਨ ਰੂਪ ਹੈ :
- (A) Public Training Agency (B) Parent Teacher Activity  
(C) Parent Teacher Association (D) Police Training Association

53. ਮੁੱਲਾਂਕਨ ਹੋਣਾ ਚਾਹੀਦਾ ਹੈ :
- (A) ਸੰਕਲਨਾਤਮਕ (B) ਰਚਨਾਤਮਕ  
(C) ਸੰਕਲਨਾਤਮਕ ਅਤੇ ਰਚਨਾਤਮਕ ਦੋਵੇਂ ਹੀ (D) ਸਾਲਾਨਾ
54. ਆਡਿਓ-ਵਿਜ਼ੁਅਲ ਮੀਡੀਆ ਕਿਹੜਾ ਹੈ :
- (A) ਰੇਡੀਓ (B) ਟੇਪ ਰਿਕਾਰਡਰ  
(C) ਕੰਪਿਊਟਰ (D) ਸਲਾਈਡ ਪ੍ਰੋਜੈਕਟਰ
55. ਬੱਚਾ ਜੀਵਨ ਦਾ ਪਹਿਲਾ ਸਬਕ ਕਿਸ ਤੋਂ ਸਿਖਦਾ ਹੈ :
- (A) ਰਾਜ (B) ਸਮਾਜ  
(C) ਘਰ (D) ਸਕੂਲ
56. ਰੱਟਾ ਲਗਾਉਣ ਦਾ ਸਭ ਤੋਂ ਵੱਡਾ ਨੁਕਸ ਹੈ ਕਿ :
- (A) ਵਿਦਿਆਰਥੀ ਬੇਲੋੜੀਆ ਚੀਜ਼ਾਂ ਯਾਦ ਕਰਦੇ ਹਨ  
(B) ਇਹ ਮੌਲਿਕ ਸੋਚ ਨੂੰ ਰੋਕਦਾ ਹੈ  
(C) ਵਿਦਿਆਰਥੀ ਚੰਗੇ ਅੰਕ ਪ੍ਰਾਪਤ ਨਹੀਂ ਕਰ ਸਕਦੇ  
(D) ਇਹ ਮਨ ਉਪਰ ਵਿਪਰੀਤ ਪ੍ਰਭਾਵ ਪਾਉਂਦਾ ਹੈ
57. ਜਮਾਤ ਵਿਚ ਅਨੁਸ਼ਾਸਨ ਨੂੰ ਬਰਕਰਾਰ ਰੱਖਣ ਲਈ, ਅਧਿਆਪਕ ਨੂੰ ਚਾਹੀਦਾ ਹੈ ਕਿ ਉਹ :
- (A) ਵਿਦਿਆਰਥੀਆਂ ਨੂੰ ਜ਼ਿੰਮੇਵਾਰੀਆਂ ਸੌਂਪੇ  
(B) ਗਲਤ ਕੰਮਾਂ ਲਈ ਸਜ਼ਾਵਾਂ ਬਾਰੇ ਸਚੇਤ ਕਰੇ  
(C) ਹਰ ਰੋਜ਼ ਆਚਰਨ-ਸੰਖਿਤਾ ਦਾ ਪਾਲਣ ਕਰਨ ਲਈ ਕਹੇ  
(D) ਸ਼ਰੀਰਕ ਸਜ਼ਾਵਾਂ ਦੇਵੇ
58. ਬਾਲ ਮਜ਼ਦੂਰੀ ਨਿਸ਼ੇਧ ਅਧਿਨਿਯਮ 1986 :
- (A) ਬੱਚੇ ਦੀ 14 ਸਾਲਾਂ ਦੀ ਉਮਰ ਤਕ ਸਭ ਪ੍ਰਕਾਰ ਦੀ ਬਾਲ ਮਜ਼ਦੂਰੀ ਨੂੰ ਰੋਕਦਾ ਹੈ  
(B) ਕੇਵਲ ਜੌਖਿਮ-ਭਰਪੂਰ ਕੰਮਾਂ ਵਿਚ ਬਾਲ ਮਜ਼ਦੂਰੀ ਨੂੰ ਰੋਕਦਾ ਹੈ  
(C) ਕੇਵਲ ਸਕੂਲੀ ਸਮੇਂ ਵਿਚ ਬਾਲ ਮਜ਼ਦੂਰੀ ਨੂੰ ਰੋਕਦਾ ਹੈ  
(D) ਬੱਚਿਆਂ ਦੀ ਸਿਖਿਆ ਦੀ ਜ਼ਿੰਮੇਵਾਰੀ ਮਾਲਿਕਾਂ ਉਪਰ ਲਗਾ ਕੇ ਬਾਲ ਮਜ਼ਦੂਰੀ ਨੂੰ ਰੋਕਦਾ ਹੈ
59. ਜਿਹੜਾਂ ਅਧਿਆਪਕ ਆਪਣੇ ਵਿਦਿਆਰਥੀਆਂ ਦਾ ਧਿਆਨ ਖਿੱਚਣ ਦੇ ਯੋਗ ਨਹੀਂ ਹੈ, ਉਸ ਨੂੰ
- (A) ਆਪਣੀ ਅਧਿਆਪਨ ਵਿਧੀ ਦਾ ਮੁੱਲਾਂਕਣ ਕਰਨਾ ਚਾਹੀਦਾ ਹੈ ਅਤੇ ਇਸ ਨੂੰ ਸੁਧਾਰਨਾ ਚਾਹੀਦਾ ਹੈ  
(B) ਆਪਣੇ ਪਦ ਤੋਂ ਤਿਆਗ-ਪੱਤਰ ਦੇ ਦੇਣਾ ਚਾਹੀਦਾ ਹੈ  
(C) ਆਪਣੇ ਵਿਦਿਆਰਥੀਆਂ ਵਿਚ ਨੁਕਸ ਮਾਲੂਮ ਕਰਨਾ ਚਾਹੀਦਾ ਹੈ  
(D) ਡਿਕਟੇਸ਼ਨ ਦੇਣਾ ਆਰੰਭ ਕਰਨਾ ਚਾਹੀਦਾ ਹੈ
60. ਅਧਿਆਪਕ ਲੈਕਚਰ ਦੌਰਾਨ ਆਪ ਕਰਕੇ ਆਪਣੇ ਵਿਦਿਆਰਥੀਆਂ ਤੋਂ ਪ੍ਰਸ਼ਨ ਪੁਛਦਾ ਹੈ :
- (A) ਇਹ ਜਾਣਨ ਲਈ ਕੀ ਵਿਦਿਆਰਥੀ ਉਸ ਦਾ ਲੈਕਚਰ ਧਿਆਨ ਨਾਲ ਸੁਣਦੇ ਹਨ  
(B) ਇਹ ਜਾਣਨ ਲਈ ਕਿ ਕਿਹੜਾ ਵਿਦਿਆਰਥੀ ਪ੍ਰਤਿਭਾਸ਼ਾਲੀ ਹੈ  
(C) ਇਹ ਜਾਣਨ ਲਈ ਕਿ ਕੀ ਵਿਦਿਆਰਥੀ ਉਸ ਦਾ ਲੈਕਚਰ ਸਮਝ ਰਹੇ ਹਨ ਜਾਂ ਨਹੀਂ  
(D) ਵਿਦਿਆਰਥੀਆਂ ਦੀ ਸਹਾਇਤਾ ਕਰਨ ਲਈ

61. ਹੇਠਾਂ ਦਿੱਤੇ ਅਨੁਕੂਲ ਵਿਚ :  
NAIDUVENKAI AHANDKOVIND  
ਹੇਠ ਲਿਖੇ ਸੈਟ ਵਿਚ ਵਿਸ਼ਮ ਪੱਦ ਹੈ :  
(A) VEN (B) AIA  
(C) IAN (D) EVU
62. ਹੇਠਾਂ ਦਿੱਤੀ ਲੜੀ ਵਿਚ ਅੱਗੇ ਕੀ ਆਉਣਾ ਚਾਹੀਦਾ ਹੈ :  
2, 5, 10, 17, 26, 37 .....  
(A) 43 (B) 49  
(C) 50 (D) 53
63. ਹੇਠਾਂ ਦਿੱਤੀ ਲੜੀ ਵਿਚ ਅੱਗੇ ਕੀ ਆਉਣਾ ਚਾਹੀਦਾ ਹੈ :  
2, 5, 11, 17, 23 .....  
(A) 29 (B) 31  
(C) 33 (D) 37
64. \* ਚਿੰਨ੍ਹ ਦੀ ਥਾਂ ਸਭ ਤੋਂ ਉਪਯੁਕਤ ਵਿਕਲਪ ਕਿਹੜਾ ਹੈ ?
- |   |   |   |
|---|---|---|
| 1 | 2 | 3 |
| 6 | 4 | 5 |
| 9 | 8 | 7 |
| * | 8 | 6 |
- (A) 1 (B) 3  
(C) 5 (D) 7
65. ਹੇਠਾਂ ਦਿੱਤੀਆਂ ਸੰਖਿਆਵਾਂ ਦੇ ਸੈੱਟਾਂ ਵਿਚ ਕਿਹੜਾ ਸੈੱਟ ਵਿਸ਼ਮ ਪੱਦ ਹੈ :  
3463, 1565, 2353, 1465, 2451, 4562, 4495, 2253  
(A) 1465 (B) 2451  
(C) 3463 (D) 4562
66. ਹੇਠਾਂ ਦਿੱਤੇ ਵਿਕਲਪਾਂ (ਉੱਤਰਾਂ) ਵਿਚ ਸੰਖਿਆਵਾਂ ਦਾ ਕਿਹੜਾ ਸੈੱਟ ਹੇਠਾਂ ਦਿੱਤੇ ਸੈੱਟ ਦਾ ਭਾਗ ਹੋ ਸਕਦਾ ਹੈ :  
601, 607, 613, 617, 619 .....  
(A) 621 (B) 623  
(C) 627 (D) 631
67. ਜੇ R ਦਾ ਮਤਲਬ 'ਨਾਲ ਗੁਣਾ', A ਦਾ ਮਤਲਬ 'ਵਿੱਚੋਂ ਘਟਾਓ' ਅਤੇ M ਦਾ ਮਤਲਬ 'ਵਿਚ ਜਮ੍ਹਾਂ' ਅਤੇ B ਦਾ ਮਤਲਬ 'ਨਾਲ ਭਾਗ ਹੈ, ਤਾਂ  
 $28 B 7 R 2 A 6 M 4 = ?$   
(A) 0 (B) 6  
(C)  $7/3$  (D) 18

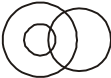
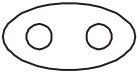


68. ਜੇ DOG ਨੂੰ GOD ਦੇ ਰੂਪ ਵਿਚ, KLM ਨੂੰ NLK ਦੇ ਰੂਪ ਵਿਚ, NEW ਨੂੰ QEN ਦੇ ਰੂਪ ਵਿਚ ਕੋਡ ਬੱਧ ਕੀਤਾ ਜਾਂਦਾ ਹੈ, ਤਾਂ BUY ਨੂੰ ਕਿਸ ਦੇ ਰੂਪ ਵਿਚ ਕੋਡ ਬੱਧ ਕੀਤਾ ਜਾਂਦਾ ਹੈ :
- (A) DUY (B) YUB  
(C) FUB (D) EUB
69. ਕੋਡ ਬੱਧ ਲੜੀ A2L, D5O, G8R, J2V, M5X, B3M, E6P, O7Z ਵਿਚ ਵਿਸ਼ਮ ਪੱਦ ਮਾਲੂਮ ਕਰੋ :
- (A) G8R (B) J2V  
(C) B3M (D) O7Z
70. ਕੋਡ ਬੱਧ ਲੜੀ ਦਿੱਤੀ ਗਈ ਹੈ : 64a, 100u, 121o, 256 i ਇਸ ਲੜੀ ਦਾ ਭਾਗ ਕਿਹੜਾ ਹੋ ਸਕਦਾ ਸੀ :
- (A) 36 b (B) 49 e  
(C) 331 e (D) 469 z
71. ਇਕ ਕੁੜੀ ਦਾ ਪਰਿਚੇ ਦਿੰਦਿਆ, ਇੱਕ ਕੁੜੀ ਨੇ ਕਿਹਾ, "ਉਹ ਮੇਰੀ ਆਂਟੀ ਦੀ ਮਾਂ ਦੀ ਬੇਟੀ ਦੀ ਬੇਟੀ ਹੈ"। ਇਨ੍ਹਾਂ ਦੋਨਾਂ ਦਾ ਸਭ ਤੋਂ ਉਪਯੁਕਤ ਰਿਸ਼ਤਾ ਕੀ ਹੈ :
- (A) ਕਜ਼ਨਜ਼ (B) ਨੀਸ ਅਤੇ ਆਂਟੀ  
(C) ਸਿਸਟਰ-ਇਨ-ਲਾਅ (D) ਮਾਂ-ਬੇਟੀ
72. ਜੇ ਸ਼ੇਰੀ ਮਨਿੰਦਰ ਦਾ ਭਰਾ ਹੈ; ਮਨਿੰਦਰ ਰਵਿੰਦਰ ਦੀ ਭੈਣ ਹੈ; ਅਤੇ ਰਵਿੰਦਰ ਸਤਿੰਦਰ ਦਾ ਪਿਤਾ ਹੈ, ਤਾਂ ਸਤਿੰਦਰ ਦਾ ਸ਼ੇਰੀ ਨਾਲ ਸਹੀ ਰਿਸ਼ਤਾ ਕੀ ਹੈ :
- (A) ਭਰਾ  
(B) ਭੈਣ  
(C) ਨੈਫਿਊ  
(D) ਇਹ ਸੂਚਨਾ ਉੱਤਰ ਦੇਣ ਲਈ ਕਾਫ਼ੀ ਨਹੀਂ ਹੈ
73. \* ਚਿੰਨ੍ਹ ਦੀ ਥਾਂ ਸਭ ਤੋਂ ਉਪਯੁਕਤ ਵਿਕਲਪ ਕਿਹੜਾ ਹੈ :  
Archaeology : Archeologist :: Bird : \*
- (A) Anthologist (B) Anthropologist  
(C) Oncologist (D) Ornithologist
74. \* ਚਿੰਨ੍ਹ ਦੀ ਥਾਂ ਸਭ ਤੋਂ ਉਪਯੁਕਤ ਵਿਕਲਪ ਕਿਹੜਾ ਹੈ :  
Macaulay : 1833 :: Wood : \*
- (A) 1854 (B) 1858  
(C) 1881 (D) 1885
75. \* ਚਿੰਨ੍ਹ ਦੀ ਥਾਂ ਸਭ ਤੋਂ ਉਪਯੁਕਤ ਵਿਕਲਪ ਕਿਹੜਾ ਹੈ :  
Foundation : Edifice :: Constitution : \*
- (A) Government (B) Parliament  
(C) Nation (D) Cabinet

76. \* ਚਿੰਨ੍ਹ ਦੀ ਥਾਂ ਸਭ ਤੋਂ ਉਪਯੁਕਤ ਵਿਕਲਪ ਕਿਹੜਾ ਹੈ :

Negative : Positive :: Vague : \*

- (A) Definite (B) Sure  
(C) Pure (D) Finite

77. \* ਹੇਠਾਂ ਦਿੱਤੇ ਰੇਖਾਚਿੱਤਰਾਂ ਵਿੱਚੋਂ ਕਿਹੜਾ ਰੇਖਾਚਿੱਤਰ ਆਦਮੀਆਂ, ਪਿਤਾਵਾਂ ਅਤੇ ਇੰਜਨੀਅਰਾਂ ਵਿਚਕਾਰ ਸੰਬੰਧ ਨੂੰ ਬੇਹਤਰੀਨ ਢੰਗ ਨਾਲ ਦਰਸਾਉਂਦਾ ਹੈ :

- (A)   
(B)   
(C)   
(D) 

78. ਹੇਠਾਂ ਦਿੱਤੇ ਰੇਖਾਚਿੱਤਰਾਂ ਵਿੱਚੋਂ ਕਿਹੜਾ ਰੇਖਾਚਿੱਤਰ ਭਾਰਤੀਆਂ, ਆਦਮੀਆਂ ਅਤੇ ਯਾਤਰੀਆਂ ਵਿਚਕਾਰ ਰਿਸ਼ਤੇ ਨੂੰ ਬੇਹਤਰੀਨ ਢੰਗ ਨਾਲ ਦਰਸਾਉਂਦਾ ਹੈ :

- (A)  (B)   
(C)  (D) 

79. ਚਾਰ ਵਿਅਕਤੀ A, B, C ਅਤੇ D ਉੱਤਰ ਵਲ ਮੂੰਹ ਕਰਕੇ ਇੱਕ ਲਾਈਨ ਵਿਚ ਖੜ੍ਹੇ ਹਨ। ਇਕ ਮਿੰਟ ਲਈ ਉਨ੍ਹਾਂ ਨੂੰ ਉਸੇ ਥਾਂ ਉਪਰ ਬੇਤਰਤੀਬੀ ਗਤੀ ਨਾਲ ਸੁਤੰਤਰ ਤੌਰ ਤੇ ਕੁਦਨ ਲਈ ਕਿਹਾ ਜਾਂਦਾ ਹੈ ; ਘੜੀ-ਰੁਖ (ਸੱਜੇ) ਅਤੇ ਘੜੀ-ਵਿਪਰੀਤ (ਖੱਬੇ)। ਇਨ੍ਹਾਂ ਵਿੱਚੋਂ ਕਿਹੜੇ ਵਿਅਕਤੀ ਦਾ ਮੂੰਹ ਇਕ ਮਿੰਟ ਦੇ ਦਿਸ ਵਿਆਯਾਮ ਪਿਛੋਂ ਉੱਤਰ ਵਲ ਹੋਵੇਗਾ :

- (A) ਖੱਬੇ, ਸੱਜੇ, ਸੱਜੇ, ਖੱਬੇ, ਖੱਬੇ, ਖੱਬੇ, ਖੱਬੇ, ਸੱਜੇ, ਸੱਜੇ, ਖੱਬੇ  
(B) ਸੱਜੇ, ਖੱਬੇ, ਸੱਜੇ, ਸੱਜੇ, ਖੱਬੇ, ਖੱਬੇ, ਖੱਬੇ, ਖੱਬੇ, ਸੱਜੇ, ਖੱਬੇ  
(C) ਖੱਬੇ, ਖੱਬੇ, ਸੱਜੇ, ਸੱਜੇ, ਖੱਬੇ, ਖੱਬੇ, ਖੱਬੇ, ਖੱਬੇ, ਸੱਜੇ, ਸੱਜੇ  
(D) ਸੱਜੇ, ਖੱਬੇ, ਸੱਜੇ, ਸੱਜੇ, ਖੱਬੇ, ਖੱਬੇ, ਖੱਬੇ, ਖੱਬੇ, ਸੱਜੇ, ਸੱਜੇ

80. ਦੋ ਕਥਨ ਦਿੱਤੇ ਹੋਏ ਹਨ :

- (i) ਕੁਝ ਅਧਿਆਪਕ ਵਿਗਿਆਨੀ ਹਨ
  - (ii) ਸਾਰੇ ਵਿਗਿਆਨੀ ਸੁਪਨ-ਦਰਸ਼ੀ ਹਨ
- ਇਨ੍ਹਾਂ ਕਥਨਾਂ ਤੋਂ ਕੀ ਸਿੱਟੇ ਕੱਢੇ ਜਾ ਸਕਦੇ ਸਨ ?
- (C1) ਅਧਿਆਪਕ ਸੁਪਨ-ਦਰਸ਼ੀ ਹੋ ਸਕਦੇ ਸਨ।
  - (C2) ਕੋਈ ਵਿਗਿਆਨੀ ਅਧਿਆਪਕ ਨਹੀਂ ਹੋ ਸਕਦਾ।
  - (A) ਕੇਵਲ (C1) ਸਿੱਟਾ ਨਿਕਲਦਾ ਹੈ
  - (B) ਕੇਵਲ (C2) ਸਿੱਟਾ ਨਿਕਲਦਾ ਹੈ
  - (C) ਨਾ (C1) ਅਤੇ ਨਾ ਹੀ (C2) ਸਿੱਟਾ ਨਿਕਲਦਾ ਹੈ
  - (D) (C1) ਅਤੇ (C2) ਦੋਵੇਂ ਸਿੱਟੇ ਨਿਕਲਦੇ ਹਨ

81. ਦੋ ਕਥਨ ਦਿੱਤੇ ਹੋਏ ਹਨ :

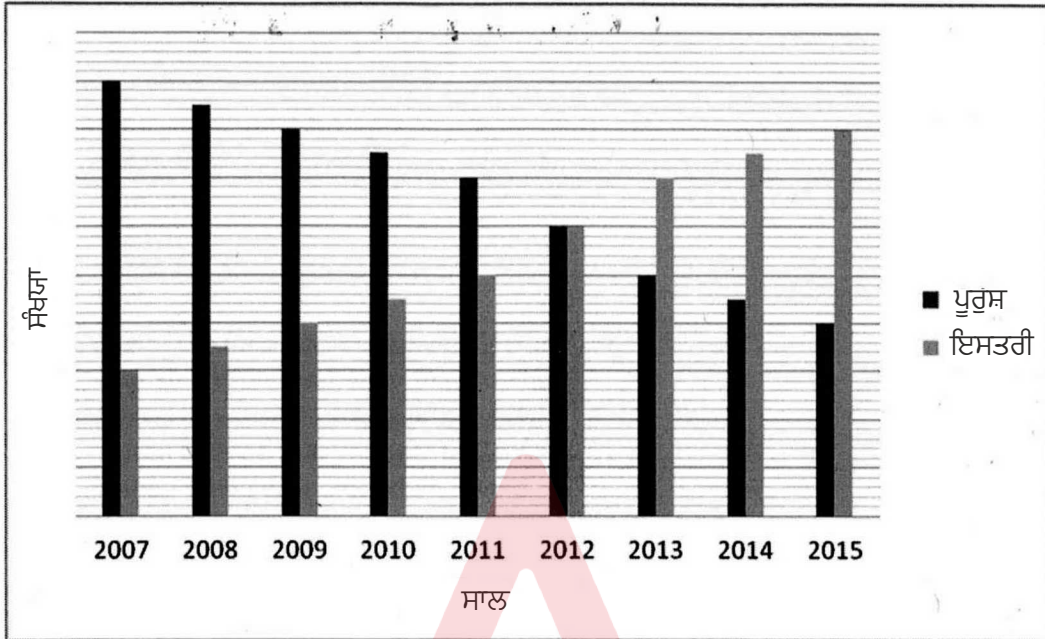
- (i) ਕੁਝ ਹਾਥੀ ਬਿੱਲੀਆਂ ਹਨ।
  - (ii) ਕੁਝ ਬਿੱਲੀਆਂ ਕੁੱਤੇ ਹਨ।
- ਕਿਹੜਾ ਸਿੱਟਾ ਕੱਢਿਆ ਜਾ ਸਕਦਾ ਸੀ ?
- (C1) ਕੁਝ ਹਾਥੀ ਕੁੱਤੇ ਹਨ।
  - (C2) ਕੁਝ ਕੁੱਤੇ ਹਾਥੀ ਹਨ।
  - (A) ਕੇਵਲ (C1) ਸਿੱਟਾ ਨਿਕਲਦਾ ਹੈ
  - (B) ਜਾਂ (C1) ਨਾਂ (C2) ਸਿੱਟਾ ਨਿਕਲਦਾ ਹੈ
  - (C) ਨਾ (C1) ਨਾ (C2) ਸਿੱਟਾ ਨਿਕਲਦਾ ਹੈ
  - (D) ਜਾਂ ਦੋਵੇਂ ਜਾਂ ਕੋਈ ਵੀ ਸਿੱਟਾ ਨਹੀਂ ਨਿਕਲਦਾ

82. ਤਿੰਨ ਕਥਨ ਦਿੱਤੇ ਹੋਏ ਹਨ :

- (i) ਸਾਰੇ ਸ਼ੇਰ ਕਿਵੀ ਹਨ।
  - (ii) ਸਾਰੇ ਕਿਵੀ ਪੰਛੀ ਹਨ।
  - (iii) ਕੁਝ ਬਘਿਆੜ ਪੰਛੀ ਹਨ।
- ਕਿਹੜਾ ਸਿੱਟਾ ਕੱਢਿਆ ਜਾ ਸਕਦਾ ਸੀ ?
- (C1) ਕੁਝ ਪੰਛੀ ਸ਼ੇਰ ਹਨ।
  - (C2) ਕੁਝ ਬਘਿਆੜ ਪੰਛੀ ਹਨ।
  - (C3) ਕਿਵੀ ਜਾਂ ਤਾਂ ਸ਼ੇਰ ਹਨ ਜਾਂ ਬਘਿਆੜ।
  - (A) ਕੇਵਲ (C1)
  - (B) ਕੇਵਲ (C2)
  - (C) ਕੇਵਲ (C1) ਅਤੇ (C2)
  - (D) ਕੇਵਲ (C1) ਅਤੇ (C3)

ਨਿਦੇਸ਼ (ਪ੍ਰਸ਼ਨ ਸੰ. 83-85) :

ਹੇਠਾਂ ਦਿੱਤਾ ਚਿੱਤਰ ਕਈ ਸਾਲਾਂ ਦੌਰਾਨ ਕਾਲਜ ਵਿਚ ਦਾਖਲ ਕੀਤੇ ਪੁਰਸ਼ ਅਤੇ ਇਸਤਰੀ ਵਿਦਿਆਰਥੀਆਂ ਦੀ ਸੰਖਿਆ ਬਾਰੇ ਸੂਚਨਾ ਦਿੰਦਾ ਹੈ



83. ਕਿਹੜੇ ਸਾਲ ਵਿਚ ਇਸਤਰੀ ਵਿਦਿਆਰਥੀਆਂ ਦੀ ਸੰਖਿਆ ਪੁਰਸ਼ ਵਿਦਿਆਰਥੀਆਂ ਨਾਲੋਂ ਦੁਗਣੀ ਸੀ ਅਤੇ/ਜਾਂ ਇਸ ਦੇ ਵਿਪਰੀਤ ?
- (A) 2008 ਅਤੇ 2014 (B) 2008 ਅਤੇ 2015  
(C) 2009 ਅਤੇ 2015 (D) 2009 ਅਤੇ 2014
84. ਕਿਹੜੇ ਸਾਲ ਵਿਚ ਇਸਤਰੀ ਵਿਦਿਆਰਥੀਆਂ ਦੀ ਦਾਖਲੇ ਵਿਚ ਅਧਿਕਤਮ ਪ੍ਰਤਿਸ਼ਤ ਟ੍ਰਿਪਲ ਪਿਛਲੇ ਸਾਲ ਦੀ ਤੁਲਨਾ ਵਿਚ ਰਜਿਸਟਰ ਹੋਈ :
- (A) 2007 (B) 2009  
(C) 2012 (D) 2015
85. ਜੇ ਕਾਲਜ ਵਿਚ ਦਾਖਲ ਕੀਤੇ ਜਾਣ ਵਾਲੇ ਵਿਦਿਆਰਥੀਆਂ ਦੀ ਕੁਲ ਸੰਖਿਆ ਪਿਛਲੇ ਸਾਲਾਂ ਵਿਚ ਨਿਸ਼ਚਿਤ ਹੈ, ਅਤੇ ਇਸਤਰੀ ਵਿਦਿਆਰਥੀਆਂ ਦੀ ਹਮੇਸ਼ਾ ਦਾਖਲ ਸੰਖਿਆ 150 ਹੈ, ਤਾਂ ਕਾਲਜ ਵਿਚ ਸੀਟਾਂ ਦੀ ਕੁਲ ਸੰਖਿਆ 21 ਹੋ ਸਕਦੀ ਸੀ :
- (A) 400 (B) 500  
(C) 600 (D) 700

ਨਿਦੇਸ਼ (ਪ੍ਰਸ਼ਨ ਸੰ. 86–88) :

ਪੰਜ ਕਜ਼ਨ ਪਾਰਟੀ ਲਈ ਬਾਹਰ ਜਾ ਰਹੇ ਹਨ। ਪ੍ਰਬੰਧਕ ਚਾਹੁੰਦੇ ਹਨ ਕਿ ਸਮੂਹ-ਵਾਰ ਪ੍ਰਵੇਸ਼ ਵਿਚ ਸਭ ਤੋਂ ਛੋਟੇ ਨੂੰ ਘਟਨਾ-ਸਥਾਨ ਵਿਚ ਪਹਿਲਾਂ ਪ੍ਰਵੇਸ਼ ਕਰਨਾ ਚਾਹੀਦਾ ਹੈ, ਅਤੇ ਉਸ ਤੋਂ ਪਿਛੋਂ ਅਗਲੇ ਛੋਟੇ ਬੰਦੇ ਨੂੰ ਆਦਿ। ਈਸ਼ਾਨ ਕਹਿੰਦਾ ਹੈ, “ਮੈਂ ਚੰਦਰ ਤੋਂ ਦੋ ਸਾਲ ਛੋਟਾ ਹਾਂ।” ਫਤਹਿ ਕਹਿੰਦਾ ਹੈ, “ਮੈਂ ਅਰਵਿੰਦ ਨਾਲੋਂ ਇਕ ਸਾਲ ਵੱਡਾ ਹਾਂ।” ਜਦੋਂ ਕਿ ਚੰਦਰ ਕਹਿੰਦਾ ਹੈ, “ਮੈਂ ਫਤਹਿ ਨਾਲੋਂ ਤਿੰਨ ਸਾਲ ਵੱਡਾ ਹਾਂ। ਗਰੀਸ਼ ਕਹਿੰਦਾ ਹੈ, “ਮੈਂ ਈਸ਼ਾਨ ਨਾਲੋਂ ਛੋਟਾ ਪਰ ਫਤਹਿ ਨਾਲੋਂ ਵੱਡਾ ਹਾਂ।”

86. ਪਹਿਲਾਂ ਕੌਣ ਪ੍ਰਵੇਸ਼ ਕਰੇਗਾ :

- (A) ਅਰਵਿੰਦ
- (B) ਚੰਦਰ
- (C) ਫਤਹਿ
- (D) ਉੱਤਰ ਦੇਣ ਲਈ ਡਾਟਾ ਕਾਫ਼ੀ ਨਹੀਂ ਹੈ

87. ਅਖ਼ੀਰ ਵਿਚ ਕੌਣ ਪ੍ਰਵੇਸ਼ ਕਰੇਗਾ :

- (A) ਚੰਦਰ
- (B) ਈਸ਼ਾਨ
- (C) ਫਤਹਿ
- (D) ਉੱਤਰ ਦੇਣ ਲਈ ਡਾਟਾ ਕਾਫ਼ੀ ਨਹੀਂ ਹੈ

88. ਹੇਠਾਂ ਦਿੱਤੇ ਕਥਨਾਂ ਵਿਚੋਂ ਕਿਹੜਾ ਕਥਨ ਸਹੀ ਹੈ :

- (A) ਗਰੀਸ਼ ਅਰਵਿੰਦ ਨਾਲੋਂ ਤਿੰਨ ਸਾਲ ਵੱਡਾ ਹੈ
- (B) ਫਤਹਿ ਈਸ਼ਾਨ ਨਾਲੋਂ ਦੋ ਸਾਲ ਛੋਟਾ ਹੈ
- (C) ਫਤਹਿ ਗਰੀਸ਼ ਨਾਲੋਂ ਤਿੰਨ ਸਾਲ ਛੋਟਾ ਹੈ
- (D) ਈਸ਼ਾਨ ਅਰਵਿੰਦ ਨਾਲੋਂ ਦੋ ਸਾਲ ਵੱਡਾ ਹੈ

ਨਿਦੇਸ਼ (ਪ੍ਰਸ਼ਨ ਸੰ. 89-90) :

ਮੁਕਾਬਲੇ ਲਈ ਟੀਮ ਭੇਜਣ ਲਈ, ਚਾਰ ਵਿਦਿਆਰਥੀਆਂ ਵਿੱਚੋਂ ਇਕ ਦੀ ਚੋਣ ਕਰਨ ਲਈ, ਪਿਛਲੇ ਛੇ ਪਰੀਖਣਾਂ ਵਿਚ ਉੱਨ੍ਹਾਂ ਦੇ ਪ੍ਰਾਪਤ-ਅੰਕਾਂ ਬਾਰੇ ਹੇਠਾਂ ਦਿੱਤੇ ਡਾਟਾ ਦਾ ਉਪਯੋਗ ਕੀਤਾ ਗਿਆ ਸੀ :

ਖਿਡਾਰੀ ਮੇਰ	S1	S2	S3	S4
1	42	36	72	54
2	58	63	51	49
3	76	51	43	51
4	24	57	28	48
5	45	43	61	46
6	55	50	45	52

89. ਪ੍ਰਾਪਤ-ਅੰਕਾਂ ਵਿਚ ਭਿੰਨਤਾਵਾਂ ਦੀ ਹਾਲਤ ਵਿਚ, ਕਿਹੜਾ ਵਿਦਿਆਰਥੀ ਕ੍ਰਮ-ਅਨੁਸਾਰ ਸਭ ਤੋਂ ਵੱਧ ਸੰਗਤ ਅਤੇ ਸਭ ਤੋਂ ਵੱਧ ਅਸੰਗਤ ਦੇਖਿਆ ਗਿਆ ਸੀ :

- (A) S1, S4  
(B) S4, S2  
(C) S3, S1  
(D) S4, S1

90. ਕਿਹੜਾ ਕਥਨ ਸਹੀ ਹੈ :

- (A) S4 ਦੇ ਹੋਰਨਾਂ ਨਾਲੋਂ ਘੱਟ ਔਸਤ ਪ੍ਰਾਪਤ-ਅੰਕ ਹਨ, ਪਰੰਤੂ ਉਹ ਵਧੇਰੇ ਸੰਗਤ ਹੈ  
(B) S1 ਦੇ ਹੋਰਨਾਂ ਨਾਲੋਂ ਉੱਚ ਔਸਤ ਪ੍ਰਾਪਤ-ਅੰਕ ਹਨ, ਪਰੰਤੂ ਉਹ ਵਧੇਰੇ ਅਸੰਗਤ ਹੈ  
(C) S4 ਦੇ ਹੋਰਨਾਂ ਨਾਲੋਂ ਉੱਚ ਔਸਤ ਪ੍ਰਾਪਤ-ਅੰਕ ਹਨ, ਅਤੇ ਉਹ ਸਭ ਤੋਂ ਵੱਧ ਸੰਗਤ ਹੈ  
(D) ਉਪਰੋਕਤ ਓਨਾ ਕਥਨਾਂ ਵਿੱਚੋਂ ਕੋਈ ਵੀ ਸਹੀ ਨਹੀਂ ਹੈ



**ENGLISH**

(Q.Nos. : **91** to **120**)

Adda247

**Directions (Q. Nos. 91–93) :**

Mark the correct form of the Passive Voice of the sentences given below out of the four options :

**91. Were they reading novels ?**

- (A) Were novels being read by them ?
- (B) Were they read novels ?
- (C) Were they being read novels ?
- (D) Had novels being read by them ?

**92. Who is helping him ?**

- (A) Who is being helped by him ?
- (B) Who had been helped be him ?
- (C) By whom is he being helped ?
- (D) By whom he is being helped ?

**93. Why have they destroyed this house ?**

- (A) By what this house was destroyed ?
- (B) Why has this house been destroyed by them ?
- (C) By whom have they destroyed this house ?
- (D) Why have they been destroying the house ?

**94. Mark the correct statement about 'Modals' out of the four options given below :**

- (A) Modals can't be used as main verbs or as independent Primary Auxiliaries.
- (B) Modals are always used alone.
- (C) Modals are never followed by the base form of a verb.
- (D) Modals can be used in all tenses.

**Directions (Q. Nos. 95–97) :**

Mark the correct form of 'Indirect Narration' of the sentences given below out of the four options :

**95. Hari said to his mother, " Whose book did you borrow yesterday ?"**

- (A) Hari asked his mother whose book she had borrowed the previous day.
- (B) Hari told her mother whose had she borrowed the book yesterday.
- (C) Hari asked his mother by whom had she borrowed the book the following day.
- (D) Hari asked his mother how she had borrowed the book the next day.

96. I said, "What a pity! You have been wasting your life for many years?"

- (A) I asked what a pity and you had wasted your life for many years.
- (B) I regretted that he had been wasting his life for many years.
- (C) I was sorry to tell him that he wasted his life for many years.
- (D) I told him that he wasted his life for many years.

97. I said to Jitendra, "Let us go out for a walk."

- (A) I suggested to Jitendra that they should go out for a walk.
- (B) I asked Jitendra if he was ready for a walk.
- (C) I told Jitendra that they did go out for a walk.
- (D) I ordered Jitendra to come out for a walk.

**Directions (Q. Nos. 98–100) :**

Mark the correct meaning of the following idioms and phrases out of the four options :

98. To let the cat out of the bag :

- (A) to have an important assignment
- (B) to allow a secret to be known
- (C) to criticize someone
- (D) to invite someone on an important day

99. To stick one's neck out :

- (A) to betray someone
- (B) to work passively to achieve something
- (C) to exclude someone
- (D) to stand up to support someone

100. At the drop of a hat :

- (A) instantly, without any hesitation
- (B) suddenly with a sense of shock
- (C) slowly in a dignified way
- (D) in a careless manner

**Directions (Q. Nos. 101–104) :**

Mark the correct synonym of the given word out of the four given options :

**101. Deportment :**

- (A) Department
- (B) Silence
- (C) Posture
- (D) Category

**102. Comportment :**

- (A) Compartment
- (B) Complaint
- (C) Criticism
- (D) Demeanour

**103. Expatiate :**

- (A) to expound
- (B) to summarize
- (C) to glorify
- (D) to exclude

**104. Improvident :**

- (A) Shining
- (B) Patient
- (C) Wasteful
- (D) Cautious

**Directions (Q. Nos. 105–108) :**

Make the correct word, out of four options, that can best be used as the substitute of the expressions given below :

**105. A place where bees are kept :**

- (A) Apiary
- (B) Epiary
- (C) Beliary
- (D) Colliery

**106. A building for keeping birds in :**

- (A) Birdiary
- (B) Aviary
- (C) Pisiary
- (D) Mortuary

**107. To renounce one's faith or religion :**

- (A) Abdicate
- (B) Renounce
- (C) Cavil
- (D) Apostasy

**108. Pathological fear of heights :**

- (A) Acrophobia
- (B) Heightophobia
- (C) Hillophobia
- (D) Pathophobia

**Directions (Q. 109–115) :**

Mark the correct sentence out of the four options given below :

**109.** (A) They denied about stealing the money.

- (B) They denied stealing the money
- (C) They denied towards steal the money
- (D) They denied of stealing the money

**110.** (A) If he had worked hard, he would have passed the examination.

- (B) If he works hard, he would have passed the examination.
- (C) If he would work hard, he would have been passed.
- (D) If he will work hard, he had passed the examination.

**111.** (A) In compliance from the orders of the authorities, I immediately addressed the situation.

- (B) In compliance at the orders of the authorities, I immediately addressed the situation.
- (C) In compliance with the orders of the authorities, I immediately addressed the situation.
- (D) In compliance by the orders of the authorities, I immediately addressed the situation.

112. (A) He was equal with the occasion.  
(B) He was equal to the occasion.  
(C) He was equal within the occasion.  
(D) He was equal at the occasion.
113. (A) I take exception to your remark.  
(B) I take exception at your remark.  
(C) I take exception from your remark.  
(D) I take exception of your remark.
114. (A) The alternative from submission is death.  
(B) The alternative to submission is death.  
(C) The alternative by submission is death.  
(D) The alternative at submission is death.
115. (A) Such a step will be prejudicial at her interests.  
(B) Such a step will be prejudicial by her interests.  
(C) Such a step will be prejudicial of her interests.  
(D) Such a step will be prejudicial to her interests.

**Directions (Q. 116–117) :**

Mark the sentence which is free from errors of punctuation out of the four options :

116. (A) "Exactly so," said Alice.  
(B) "Exactly, so? said", Alice.  
(C) Exactly "so", said Alice.  
(D) Exactly so, "Said Alice".
117. (A) He will succeed; you, never.  
(B) He, will succeed, you never.  
(C) He, will succeed: you, never.  
(D) He, will succeed you, will never.

**Directions (Q. 118–120) :**

Read and comprehend the following passage carefully and mark the correct answers of the questions out of the four options :

There are other defects in Hinduism and in Islam which are responsible for keeping the sore between Hinduism and Muslims open and running. Hinduism is said to divide people and Islam is said to bind people together. This is only a half truth. For Islam divides as inexorably as it binds..... The brotherhood of Islam is not the universal brotherhood of man. It is brotherhood of Muslims for Muslims only. There is a fraternity but its benefit is confined to those within that corporation. For those who are outside the corporation, there is nothing but contempt and enmity. The second defect of Islam is that it is a system of social self-government and is incompatible with local self-government, because of the allegiance of a Muslim does not rest on his domicile in the country which is his but on the faith to which he belongs.... Wherever there is the rule of Islam, there is his own country. In other words, Islam can never allow a true Muslim to adopt India as his motherland and regard a Hindu his kith and kin. This is probably the reason why Maulana Mahomed Ali, a great Indian but a true Muslim, preferred to be buried in Jerusalem rather than in India. – Dr. Babasaheb Ambedkar.

**118. In the passage cited above, Dr. Ambedkar uses the word “sore” which means :**

- (A) patience
- (B) wound
- (C) condemnation
- (D) procrastination

**119. In the passage cited above, Dr. Ambedkar uses the word “allegiance” which stands for :**

- (A) allegation
- (B) loyalty
- (C) doubt
- (D) treason

**120. In the passage cited above, Dr. Ambedkar :**

- (A) seems to support the claim of establishing Hindu-Muslim unity.
- (B) seems to appreciate the Islamic doctrine of universal brotherhood.
- (C) seems to analyse the reasons why Hindu-Muslim unity cannot be easily established in India.
- (D) seems to criticize both Hindus and Muslims for their indifference to environmentalism.



**HINDI**

(Q.Nos. : **121** to **150**)

Adda247

121. हिन्दी में व्यंजन कितने प्रकार के हैं ?  
 (A) दो (B) तीन  
 (C) चार (D) पाँच
122. हिन्दी वर्णमाला में कुल कितने अक्षर हैं ?  
 (A) 33 (B) 26  
 (C) 46 (D) 44
123. इनमें से परोक्ष का विलोम है :  
 (A) प्रत्यक्ष (B) प्रधान  
 (C) पूर्ण (D) प्रकट
124. घड़ों पानी पड़ना मुहावरे का अर्थ है :  
 (A) पाप का धुल जाना (B) लज्जित होना  
 (C) ठंड लगना (D) ज्यादा पानी से स्नान करना
125. घी के दिए जलाना मुहावरे का अर्थ है :  
 (A) फिजूलखर्च करना (B) दान करना  
 (C) उजाला करना (D) खुशियाँ मनाना
126. निरामिष का अर्थ है :  
 (A) जो मांस न खाता हो (B) जो मांस खाता हो  
 (C) जो केवल फल खाता हो (D) निर्दयी
127. शाश्वत का अर्थ है :  
 (A) सबसे ऊपर (B) सबसे नीचे  
 (C) सदा रहने वाला (D) सदा न रहने वाला
128. पांडुलिपि का अर्थ है :  
 (A) प्राचीनतम लिपि (B) पांडवों की लिपि  
 (C) वक्रदार लिपि (D) हाथ द्वारा लिखी हुई

129. अपनी नींद सोना, अपनी नींद जागना मुहावरे का अर्थ है :

- (A) लापरवाह होना (B) घमंड होना  
(C) स्वतंत्र होना (D) कामचोर होना

130. अतिवृष्टि का अर्थ है :

- (A) सूखा पड़ना (B) अधिक वर्षा होना  
(C) विपदा आना (D) इनमें से कोई नहीं

131. देवनागरी लिपि में संयुक्त व्यंजन कितने हैं ?

- (A) दो (B) तीन  
(C) चार (D) पाँच

132. दोहा छंद के दूसरे व चौथे चरण में कितनी मात्राएं होती हैं ?

- (A) 13 (B) 11  
(C) 10 (D) 21

133. जब एक शब्द एक ही बार प्रयुक्त हो लेकिन उसके अर्थ अधिक निकलें तो कौनसा अलंकार होगा ?

- (A) श्लेष (B) अनुप्रास  
(C) रूपक (D) उपमा

134. रूपक अलंकार किस प्रकार है ?

- (A) शब्दालंकार (B) अर्थालंकार  
(C) मात्रिक अलंकार (D) इनमें से कोई नहीं

135. निम्नलिखित में से कौनसा शब्द पुल्लिंग नहीं है ?

- (A) हीरा (B) चंबल  
(C) मोती (D) नीलम

136. निम्नलिखित में से कौनसा शब्द स्त्रीलिंग नहीं है ?

- (A) डोली (B) वेदना  
(C) बिक्री (D) इनमें से कोई नहीं

137. निम्नलिखित में से किस शब्द के बहुवचन रूप में कोई परिवर्तन नहीं होगा ?  
 (A) कमरा (B) प्याला  
 (C) घोड़ा (D) पिता
138. सर्वनाम के कितने भेद होते हैं ?  
 (A) 8 (B) 10  
 (C) 6 (D) इनमें से कोई नहीं
139. विशेषण के मुख्य भेद कितने हैं ?  
 (A) 4 (B) 6  
 (C) 2 (D) इनमें से कोई नहीं
140. इनमें से कौनसा विशेषण परिणाम बोधक नहीं है ?  
 (A) बहुत (B) थोड़ा  
 (C) अच्छा (D) इनमें से कोई नहीं
141. निम्नलिखित में से कौनसा शब्द शुद्ध नहीं लिखा है ?  
 (A) मान्यनीय (B) अर्थ  
 (C) निष्ठा (D) इनमें से कोई नहीं
142. निम्नलिखित में से कौनसा शब्द शुद्ध नहीं लिखा है ?  
 (A) कृपा (B) बग्घी  
 (C) चंद्र (D) इनमें से कोई नहीं
143. निम्नलिखित में से कौनसा शब्द शुद्ध लिखा है ?  
 (A) अत्याधिक (B) अत्यधिक  
 (C) सन्मुख (D) इनमें से कोई नहीं
144. निम्नलिखित में से कौनसा शब्द शुद्ध लिखा है ?  
 (A) ग्यान (B) विग्यान  
 (C) योग्य (D) इनमें से कोई नहीं
145. निम्नलिखित में से कौनसा शब्द शुद्ध लिखा है ?  
 (A) परणाम (B) मूरख  
 (C) सौहार्द्र (D) इनमें से कोई नहीं

**नोट :** निम्नलिखित गद्यांश पर आधारित प्रश्न 146 से 150 के उत्तर दीजिए।

जरूरत इस बात की है कि हमारी शिक्षा का माध्यम भारतीय भाषा या मातृभाषा हो, जिसमें राष्ट्र के हृदय मन प्राण के सूक्ष्मतम और गंभीर संवेदन मुखरित हो। हमारा पाठ्यक्रम यूरोप तथा अमेरिका के पाठ्यक्रम पर आधारित न होकर हमारी अपनी सांस्कृतिक परम्पराओं एवं आवश्यकताओं का प्रतिनिधित्व करे। भारतीय भाषाओं, भारतीय इतिहास, भारतीय दर्शन, भारतीय धर्म और भारतीय समाजशास्त्र को हम सर्वोपरि स्थान दें। उन्हें अपना शिक्षाक्रम में गौण स्थान देकर या शिक्षित जन को उनसे वंचित रखकर हमने राष्ट्रीय संस्कृति में एक बड़ी विसंगति को जन्म दिया है, जो नयी पीढ़ी को भीतर से खोखला कर रही है। हम राष्ट्रीय परंपरा से नहीं सामयिक जीवन प्रवाह से भी दूर हो गए हैं। विदेशी पश्चिमी चश्मों के भीतर से देखने पर अपने घर के प्राणी भी अनजाने और अजीब से लगने लगे हैं। शिक्षित जन और सामान्य जनता के बीच खाई बढ़ती गयी है। हम विश्व संस्कृति के दावेदार होने का दम्भ करते हुए रह गए हैं इस स्थिति को हास्यास्पद ही कहा जा सकता है।

**146. उपरोक्त गद्यांश का सर्वाधिक उपयुक्त शीर्षक है :**

- (A) हमारा शिक्षा माध्यम और पाठ्यक्रम (B) शिक्षित जन और सामान्य जनता  
(C) हमारी सांस्कृतिक परंपरा (D) शिक्षा का माध्यम

**147. हमारी शिक्षा का माध्यम भारतीय भाषा इसलिए होना चाहिए क्योंकि उसमें :**

- (A) विदेशी पाठ्यक्रम का अभाव होता है  
(B) भारतीय इतिहास और भारतीय दर्शन का ज्ञान निहित होता है  
(C) सामयिक जीवन निरंतर प्रवाहित होता रहता है  
(D) भारतीय मानस का स्पंदन ध्वनित होता है

**148. हमारी शिक्षा में ऐसे पाठ्यक्रम की आवश्यकता है जिसमें :**

- (A) सामयिकी जन संस्कृति का समावेश हो  
(B) भारतीय सांस्कृतिक परंपरा का प्रतिनिधित्व हो  
(C) पाश्चात्य संस्कृति का पूर्ण ज्ञान कराने की क्षमता हो  
(D) आधुनिक वैज्ञानिक विचारधाराओं का मिश्रण हो

**149. हमें राष्ट्रीय सांस्कृतिक परम्परा के साथ-साथ जुड़ना चाहिए :**

- (A) सामयिक जीवन प्रवाह से (B) समसामयिक वैज्ञानिक विचारधारा से  
(C) अद्यतन साहित्यिक परंपरा से (D) भारतीय नव्य समाजशास्त्र से

**150. शिक्षित जन और सामान्य जनता में निरंतर अंतर बढ़ने का कारण है कि हम :**

- (A) भारतीय समाजशास्त्र को सर्वोपरि स्थान नहीं देते  
(B) विदेशी चश्मे लगाकर अपने लोगों को देखते हैं  
(C) भारतीय भाषाओं का अध्ययन नहीं करते  
(D) नयी पीढ़ी को भीतर से खोखला कर रहे हैं



**PUNJABI**

(Q.Nos. : **151** to **180**)

Adda247

151. ਵਿਆਕਰਨ ਤੋਂ ਭਾਵ ਹੈ :

- (A) ਕਿਸੇ ਭਾਸ਼ਾ ਦੀ ਸਿਖਲਾਈ ਦੇ ਨਿਯਮ
- (B) ਕਿਸੇ ਭਾਸ਼ਾ ਦੇ ਉਚਾਰਨ ਦੇ ਨਿਯਮ
- (C) ਕਿਸੇ ਭਾਸ਼ਾ ਦੀ ਬਣਤਰ ਦੇ ਨਿਯਮਾਂ ਦਾ ਸਮੂਹ
- (D) ਕਿਸੇ ਭਾਸ਼ਾ ਦੇ ਅਧਿਆਪਨ ਦੇ ਨਿਯਮ

152. ਪੰਜਾਬੀ ਭਾਸ਼ਾ ਵਿੱਚ ਵਚਨਾਂ ਦੀ ਗਿਣਤੀ ਹੈ :

- (A) ਤਿੰਨ
- (B) ਦੋ
- (C) ਚਾਰ
- (D) ਉਪਰੋਕਤ ਵਿੱਚੋਂ ਕੋਈ ਨਹੀਂ

153. ਜਿਹੜੀਆਂ ਧੁਨੀਆਂ ਇਕੱਲੀਆਂ ਨਾ ਉਚਾਰੀਆਂ ਜਾ ਸਕਣ, ਉਹਨਾਂ ਨੂੰ ਕਿਹਾ ਜਾਂਦਾ ਹੈ।

- (A) ਅਖੰਡੀ
- (B) ਖੰਡੀ
- (C) ਸਵਰ
- (D) ਵਿਅੰਜਨ

154. ਭਾਰਤੀ ਪੰਜਾਬ ਵਿੱਚ ਬੋਲੀਆਂ ਜਾਣ ਵਾਲੀਆਂ ਮੁੱਖ ਉਪਭਾਸ਼ਾਵਾਂ ਦੀ ਗਿਣਤੀ ਹੈ :

- (A) ਚਾਰ
- (B) ਦਸ
- (C) ਤਿੰਨ
- (D) ਨੌਂ

155. ਅੰਮ੍ਰਿਤਸਰ ਤੇ ਗੁਰਦਾਸਪੁਰ ਕਿਸ ਉਪਭਾਸ਼ਾਈ ਖਿੱਤੇ ਦਾ ਅੰਗ ਹਨ :

- (A) ਪੋਠੋਹਾਰ
- (B) ਮਲਵਈ
- (C) ਮਾਝੀ
- (D) ਡੋਗਰੀ

156. ਪੰਜਾਬੀ ਵਾਕ-ਬਣਤਰ ਦੀ ਵਿਉਂਤ ਹੈ :

- (A) ਕਰਤਾ + ਕਿਰਿਆ + ਕਰਮ + ਸਹਾਇਕ ਕਿਰਿਆ
- (B) ਕਰਤਾ + ਕਰਮ + ਕਿਰਿਆ + ਸਹਾਇਕ ਕਿਰਿਆ
- (C) ਕਰਤਾ + ਕਰਮ + ਸਹਾਇਕ ਕਿਰਿਆ
- (D) ਕਰਤਾ + ਕਰਮ + ਸਹਾਇਕ ਕਿਰਿਆ + ਸੰਚਾਲਕ ਕਿਰਿਆ

157. ਵਾਕ ਦੀ ਬਣਤਰ ਦਾ ਹਿੱਸਾ ਹੁੰਦੇ ਹਨ :

- (A) ਨਾਂਵ-ਵਾਕੰਸ਼ + ਉਪਵਾਕ
- (B) ਨਾਂਵ-ਵਾਕੰਸ਼ + ਅਧੀਨ ਉਪਵਾਕ
- (C) ਨਾਂਵ-ਵਾਕੰਸ਼ + ਕਿਰਿਆ ਵਾਕੰਸ਼
- (D) ਵਿਸ਼ੇਸ਼ਣ + ਨਾਂਵ-ਵਾਕੰਸ਼

158. ਗੁਰਮੁਖੀ ਲਿਪੀ ਦੀ ਰਚਨਾ ਕਿਵੇਂ ਹੋਈ :

- (A) ਗੁਰੂ ਅੰਗਦ ਦੇਵ ਜੀ ਦੁਆਰਾ  
(B) ਭਾਰਤੀ ਲਿਪੀਆਂ ਦੇ ਵਿਕਾਸ ਦੇ ਰੂਪ ਵਿੱਚ  
(C) ਸ਼ਾਰਦਾ ਅਤੇ ਬ੍ਰਹਮੀ ਲਿਪੀ ਦੇ ਅਗਲੇਰੇ ਪੜਾਅ ਵਜੋਂ  
(D) ਖ਼ਰੋਸ਼ਟੀ ਲਿਪੀ ਦੇ ਅਗਲੇਰੇ ਪੜਾਅ ਵਜੋਂ

159. ਸਵਰ-ਵਾਹਕ ਹਨ :

- (A) ਓ, ਅ, ਏ (B) ਸ, ਵ, ਹ  
(C) ਕ, ਟ, ਪ (D) ਨ, ਣ, ਮ

160. ਪੰਜਾਬੀ ਵਿੱਖ ਸਵਰਾਂ ਦੀ ਗਿਣਤੀ ਹੈ :

- (A) ਨੌਂ (B) ਬਾਰਾਂ  
(C) ਅੱਠ (D) ਦਸ

161. ਮਲਵਈ ਅਤੇ ਪੁਆਧੀ ਵਿੱਚ ਕਿਹੜੀਆਂ ਨਾਸਕੀ ਧੁਨੀਆਂ ਨਹੀਂ ਮਿਲਦੀਆਂ :

- (A) ਨ ਤੇ ਣ (B) ਙ ਤੇ ਵ  
(C) ਙ ਤੇ ਮ (D) ਵ ਤੇ ਣ

162. ਮਲਵਈ ਉਪਭਾਸ਼ਾਈ ਖੇਤਰ ਦਾ ਹਿੱਸਾ ਹਨ :

- (A) ਅੰਮ੍ਰਿਤਸਰ ਤੇ ਗੁਰਦਾਸਪੁਰ (B) ਜਲੰਧਰ ਤੇ ਹੁਸ਼ਿਆਰਪੁਰ  
(C) ਮੁਕਤਸਰ ਤੇ ਬਠਿੰਡਾ (D) ਪਟਿਆਲਾ ਤੇ ਰੋਪੜ

163. ਕਪੂਰਥਲਾ ਤੇ ਨਵਾਂ ਸ਼ਹਿਰ ਜ਼ਿਲ੍ਹਿਆਂ ਵਿੱਚ ਉਪਭਾਸ਼ਾ ਬੋਲੀ ਜਾਂਦੀ ਹੈ :

- (A) ਝਾਂਗੀ (B) ਮਲਵਈ  
(C) ਬਾਂਗਰੂ (D) ਦੁਆਬੀ

ਉਪਰੋਕ ਪੇਰਾ ਪੜ੍ਹ ਕੇ ਪ੍ਰਸ਼ਨ ਨੰ: 164 ਤੋਂ 168 ਤੱਕ ਦੇ ਉੱਤਰ ਦਿਓ।

ਕਿਸੇ ਬੋਲੀ ਦਾ ਪ੍ਰਭਾਵ ਦੂਜੀ ਬੋਲੀ 'ਤੇ ਦੋ ਤਰੀਕਿਆਂ ਨਾਲ ਪੈਂਦਾ ਹੈ। ਪਹਿਲਾ, ਉਸ ਬੋਲੀ ਦੀ ਸ਼ਬਦਾਵਲੀ ਦੀ ਦੂਜੀ ਬੋਲੀ ਵਿੱਚ ਵਰਤੋਂ ਤੇ ਆਪਸੀ ਲੈਣ ਦੇਣ ਨਾਲ ਅਤੇ ਦੂਸਰਾ, ਸਾਹਿਤ ਦੀ ਰਚਨਾ ਤੇ ਸਾਹਿਤਕ ਮਰਿਆਦਾ ਦਾ ਪ੍ਰਭਾਵ ਜਾਂ ਸਾਹਿਤਕ ਸਮੱਗਰੀ ਗ੍ਰਹਿਣ ਕਰਨਾ। ਪਹਿਲੀ ਕਿਸਮ ਦੇ ਪ੍ਰਭਾਵ ਦੀ ਉੱਤਮ ਮਿਸਾਲ ਪੰਜਾਬੀ ਤੇ ਫ਼ਾਰਸੀ ਦਾ ਅਸਰ ਹੈ। ਪੰਜਾਬੀ ਵਿੱਚ ਘੱਟੋ-ਘੱਟ ਦਸ ਪ੍ਰਤੀਸ਼ਤ ਸ਼ਬਦ ਅਰਬੀ, ਫ਼ਾਰਸੀ ਦੇ ਮਿਲਦੇ ਹਨ।

ਅੰਗਰੇਜ਼ੀ ਅਤੇ ਹੋਰ ਪੱਛਮੀ ਬੋਲੀਆਂ ਦਾ ਪੰਜਾਬੀ 'ਤੇ ਜੋ ਪ੍ਰਭਾਵ ਪਿਆ ਹੈ ਉਹ ਇਨ੍ਹਾਂ ਬੋਲੀਆਂ ਦਾ ਨਰੋਆ ਸਾਹਿਤ ਹੋਣ ਸਦਕਾ ਹੈ। ਇਨ੍ਹਾਂ ਬੋਲੀਆਂ ਦੀ ਵਿਸ਼ਾਲ ਸਾਹਿਤਕ ਸਮੱਗਰੀ ਨੇ ਪੰਜਾਬੀ ਨੂੰ ਆਪਣੇ ਪ੍ਰਭਾਵ ਅਧੀਨ ਲਿਆ। ਪੰਜਾਬੀ ਵਿਚ ਆਰੰਭਕ ਸਮੇਂ ਵਾਰਤਕ ਸਾਹਿਤ ਬਹੁਤ ਘੱਟ ਸੀ ਅਤੇ ਜਿਹੜਾ ਸੀ ਉਸ ਵਿਚ ਬੋਲ-ਚਾਲ ਦੀ ਬੋਲੀ ਦਾ ਮੁਹਾਵਰਾ ਸੀ। ਉਸਦਾ ਕੋਈ ਰੂਪ ਨਹੀਂ ਸੀ ਬੱਝਾ ਅਤੇ ਨਾ ਹੀ ਉਹ ਵਿਆਕਰਣ ਦੇ ਸਿਧਾਂਤਾਂ ਤੇ ਪੂਰੀ ਉਤਰਦੀ ਸੀ। ਕੋਈ ਪੱਕੀ ਸ਼ੈਲੀ ਵੀ ਨਹੀਂ ਸੀ ਬੱਝੀ। ਇਸ ਵਾਰਤਕ ਵਿਚ ਸਰਲਤਾ, ਸੰਜਮ ਅਤੇ ਸਪੱਸ਼ਟਤਾ ਨਹੀਂ ਸੀ। ਪੰਜਾਬੀ ਵਾਰਤਕ ਸ਼ੈਲੀ ਵਿਚ ਪਕਿਆਈ ਵੀ ਅੰਗਰੇਜ਼ੀ ਦੇ ਪ੍ਰਭਾਵ ਅਧੀਨ ਆਈ।

164. ਇੱਕ ਬੋਲੀ ਦਾ ਦੂਜੀ ਉੱਪਰ ਪ੍ਰਭਾਵ ਕਿਸ ਤਰ੍ਹਾਂ ਪੈਂਦਾ ਹੈ :

- (A) ਸ਼ਬਦਾਵਲੀ ਦੀ ਵਰਤੋਂ ਅਤੇ ਸਾਹਿਤਕ ਮਰਯਾਦਾਵਾਂ ਦਾ ਪ੍ਰਯੋਗ
- (B) ਭਾਸ਼ਾ ਦੀ ਯੋਗ ਵਰਤੋਂ ਅਤੇ ਸਾਹਿਤ ਦੀ ਅਮੀਰੀ ਲਈ
- (C) ਭਾਸ਼ਾ ਦੀ ਸ਼ਬਦਾਵਲੀ ਅਤੇ ਵਿਚਾਰਾਂ ਦੇ ਸੰਚਾਰ ਦੀ ਸਪੱਸ਼ਟਤਾ ਲਈ
- (D) ਭਿੰਨ-ਭਿੰਨ ਭਾਸ਼ਾਵਾਂ ਨੂੰ ਸਿੱਖਣ ਸਾਹਿਤ ਨੂੰ ਸਮਝਣ ਲਈ

165. ਸ਼ਬਦਾਵਲੀ ਦੀ ਪੱਧਰ ਉੱਤੇ ਪੰਜਾਬੀ ਉੱਪਰ ਕਿਸ ਭਾਸ਼ਾ ਦਾ ਪ੍ਰਭਾਵ ਦਿਖਾਈ ਦਿੰਦਾ ਹੈ :

- (A) ਸੰਸਕ੍ਰਿਤ
- (B) ਹਿੰਦੀ
- (C) ਫਾਰਸੀ
- (D) ਅੰਗਰੇਜ਼ੀ

166. ਅੰਗਰੇਜ਼ੀ ਤੇ ਹੋਰ ਪੱਛਮੀ ਬੋਲੀਆਂ ਦਾ ਪ੍ਰਭਾਵ ਕਿਸ ਤਰ੍ਹਾਂ ਪਿਆ :

- (A) ਭਾਸ਼ਾ ਦਾ ਪ੍ਰਯੋਗ
- (B) ਨਰੋਏ ਸਾਹਿਤ ਰਾਹੀਂ
- (C) ਵਿਗਿਆਨਕ ਤੇ ਪੱਛਮੀ ਜੀਵਨ ਵਿਧੀ ਰਾਹੀਂ
- (D) ਦਰਸ਼ਨ ਤੇ ਪੱਛਮੀ ਜੀਵਨ ਵਿਧੀ ਰਾਹੀਂ

167. ਅੰਗਰੇਜ਼ੀ ਭਾਸ਼ਾ ਤੇ ਸਾਹਿਤ ਦੇ ਪ੍ਰਭਾਵ ਨੇ ਪੰਜਾਬੀ ਵਿਚ ਕਿਹੜੀ ਤਬਦੀਲੀ ਆਈ :

- (A) ਪੰਜਾਬੀ ਸਾਹਿਤ ਵਿਚ ਰਚਨਾਵਾਂ ਵਧੀਆਂ
- (B) ਪੰਜਾਬੀ ਕਵਿਤਾ ਵਧੇਰੇ ਰਚੀ ਜਾਣ ਲੱਗੀ
- (C) ਪੰਜਾਬੀ ਵਿੱਚ ਨਵੀਂ ਵਾਰਤਕ ਸ਼ੈਲੀ ਵਿਕਸਤ ਹੋਈ
- (D) ਪੰਜਾਬੀ ਵਿੱਚ ਨਵੇਂ ਮੁਹਾਵਰੇ ਪ੍ਰਚਲਿਤ ਹੋਏ

168. ਪੰਜਾਬੀ ਵਾਰਤਕ ਦੀ ਕਿਹੜੀ ਰੁਚੀ ਪੱਛਮੀ ਭਾਸ਼ਾਵਾਂ ਦੇ ਪ੍ਰਭਾਵ ਨਾਲ ਵਿਕਸਤ ਹੋਈ :

- (A) ਪੰਜਾਬੀ ਵਾਰਤਕ ਵਿੱਚ ਸਰਲਤਾ, ਸਪੱਸ਼ਟਤਾ ਤੇ ਸੰਜਮ ਆਦਿ ਗੁਣ ਪ੍ਰਚਲਿਤ ਹੋਏ
- (B) ਪੰਜਾਬੀ ਵਾਰਤਕ ਵਿਚ ਧਰਮ ਪ੍ਰਧਾਨ ਵਿਸ਼ੇ ਪ੍ਰਚਲਿਤ ਹੋਏ
- (C) ਪੰਜਾਬੀ ਵਾਰਤਕ ਦੀ ਭਾਸ਼ਾ ਜ਼ਿਆਦਾ ਮੁਹਾਵਰੇਦਾਰ ਹੋਈ
- (D) ਪੰਜਾਬੀ ਵਾਰਤਕ ਵਧੇਰੇ ਲੋਕਪ੍ਰਿਯ ਹੋਈ

169. 'ਉਹ ਕਿਹੜੀ ਗਲੀ, ਜਿੱਥੇ ਭਾਗੋਂ ਨਹੀਂ ਖੜੀ' ਹੈ :

- (A) ਮੁਹਾਵਰਾ (B) ਅਖਾਣ  
(C) ਅਖਾਣ ਤੇ ਮੁਹਾਵਰਾ (D) ਵਾਕ-ਰੂਪ

170. 'ਇਕ ਅਨਾਰ, ਸੌ ਬੀਮਾਰ' ਹੈ :

- (A) ਅਖਾਣ (B) ਮੁਹਾਵਰਾ  
(C) ਉਕਤੀ (D) ਲੋਕ-ਕਥਨ

171. ਅਖਾਣ ਅਤੇ ਮੁਹਾਵਰਿਆਂ ਦੀ ਭਾਸ਼ਾ ਦਾ ਸੰਚਾਰੀ ਗੁਣ ਹੈ :

- (A) ਦੁਅਰਥਕਤਾ (B) ਬਹੁਅਰਥਕਤਾ  
(C) ਲਖਣਾਰਥਕਤਾ (D) ਇਕਅਰਥਕਤਾ

172. ਤਤਸਮ ਸ਼ਬਦਾਂ ਤੋਂ ਭਾਵ ਹੈ :

- (A) ਕਿਸੇ ਭਾਸ਼ਾ ਦੇ ਮੌਲਿਕ ਸ਼ਬਦ-ਰੂਪ  
(B) ਕਿਸੇ ਭਾਸ਼ਾ ਦੇ ਬਦਲੇ ਹੋਏ ਸ਼ਬਦ-ਰੂਪ  
(C) ਕਿਸੇ ਹੋਰ ਭਾਸ਼ਾ ਤੋਂ ਉਧਰਤ ਸ਼ਬਦ-ਰੂਪ  
(D) ਉਧਰਤ ਸ਼ਬਦ-ਰੂਪਾਂ ਦੇ ਬਦਲਵੇਂ ਰੂਪ

173. ਸ਼ੁੱਧ ਸ਼ਬਦ-ਜੋੜ ਦੱਸੋ :

- (A) ਸਾਮਗਰੀ, ਵਆਪਕ (B) ਭਾਸ਼ਾ, ਸਰੰਚਨਾ  
(C) ਬਨਆਦੀ, ਸੰਗਠਨ (D) ਵਰਨਣ, ਬੇਸ਼ਰਮ

174. ਪੰਜਾਬੀ ਸਾਹਿਤ ਦਾ ਮੁੱਢ ਬੱਝਦਾ ਹੈ :

- (A) ਫ਼ਰੀਦ ਬਾਣੀ ਤੋਂ (B) ਨਾਥ ਜੋਗੀ ਸਾਹਿਤ ਤੋਂ  
(C) ਲੋਕ ਸਾਹਿਤ ਤੋਂ (D) ਗੁਰੂ ਨਾਨਕ ਬਾਣੀ ਤੋਂ

175. ਆਧੁਨਿਕ ਪੰਜਾਬੀ ਸਾਹਿਤ ਦਾ ਪਿਤਾਮਾ ਹੈ :

- (A) ਨਾਨਕ ਸਿੰਘ (B) ਭਾਈ ਵੀਰ ਸਿੰਘ  
(C) ਧਨੀ ਰਾਮ ਚਾੜ੍ਹਕ (D) ਮੋਹਨ ਸਿੰਘ ਵੈਦ

176. ਪੰਜਾਬੀ ਰੰਗਮੰਚ ਦਾ ਮੋਢੀ ਹੈ :

- (A) ਬਲਵੰਤ ਗਾਰਗੀ (B) ਹਰਚਰਨ ਸਿੰਘ  
(C) ਆਈ. ਸੀ. ਨੰਦਾ (D) ਬ੍ਰਿਜ ਲਾਲ ਸ਼ਾਸਤਰੀ

177. ਪੰਜਾਬੀ ਵਿੱਚ ਗਿਆਨਪੀਠ ਸਨਮਾਨ ਪ੍ਰਾਪਤ ਕਰਨ ਵਾਲਾ ਲੇਖਕ ਹੈ :

- (A) ਅੰਮ੍ਰਿਤਾ ਪ੍ਰੀਤਮ (B) ਦਲੀਪ ਕੌਰ ਟਿਵਾਣਾ  
(C) ਨਾਨਕ ਸਿੰਘ (D) ਭਾਈ ਵੀਰ ਸਿੰਘ

178. ਪੰਜਾਬੀ ਸਾਹਿਤ ਦਾ 'ਬਾਬਾ ਬੋਹੜ' ਕਿਸ ਨੂੰ ਕਿਹਾ ਜਾਂਦਾ ਹੈ :

- (A) ਗੁਰਬਖਸ਼ ਸਿੰਘ ਪ੍ਰੀਤਲੜੀ (B) ਗੁਰਦਿਆਲ ਸਿੰਘ  
(C) ਮੋਹਨ ਸਿੰਘ (D) ਸੰਤ ਸਿੰਘ ਸੇਖੋਂ

179. 'ਪਿਆਰ ਕਬਜ਼ਾ ਨਹੀਂ ਪਹਿਚਾਣ ਹੈ' ਦਾ ਸਿਧਾਂਤ ਕਿਸ ਲੇਖਕ ਦਾ ਹੈ :

- (A) ਪ੍ਰਿੰਸੀਪਲ ਤੇਜਾ ਸਿੰਘ (B) ਗੁਰਬਖਸ਼ ਸਿੰਘ ਪ੍ਰੀਤਲੜੀ  
(C) ਵਾਰਿਸ ਸ਼ਾਹ (D) ਕਾਦਰਯਾਰ

180. 'ਅੱਜ ਆਖਾਂ ਵਾਰਿਸ ਸ਼ਾਹ ਨੂੰ ਕਿਤੇ ਕਬਰਾਂ ਵਿੱਚੋਂ ਬੋਲ' ਕਵਿਤਾ ਕਿਸਦੀ ਹੈ :

- (A) ਅੰਮ੍ਰਿਤਾ ਪ੍ਰੀਤਮ (B) ਮੋਹਨ ਸਿੰਘ  
(C) ਸ਼ਿਵ ਕੁਮਾਰ ਬਟਾਲਵੀ (D) ਸੁਰਜੀਤ ਪਾਤਰ

SPACE FOR ROUGH WORK



Test

Prime

By Adda247

# Previous Year Papers PDF

PRACTICE MORE, SCORE HIGHER!



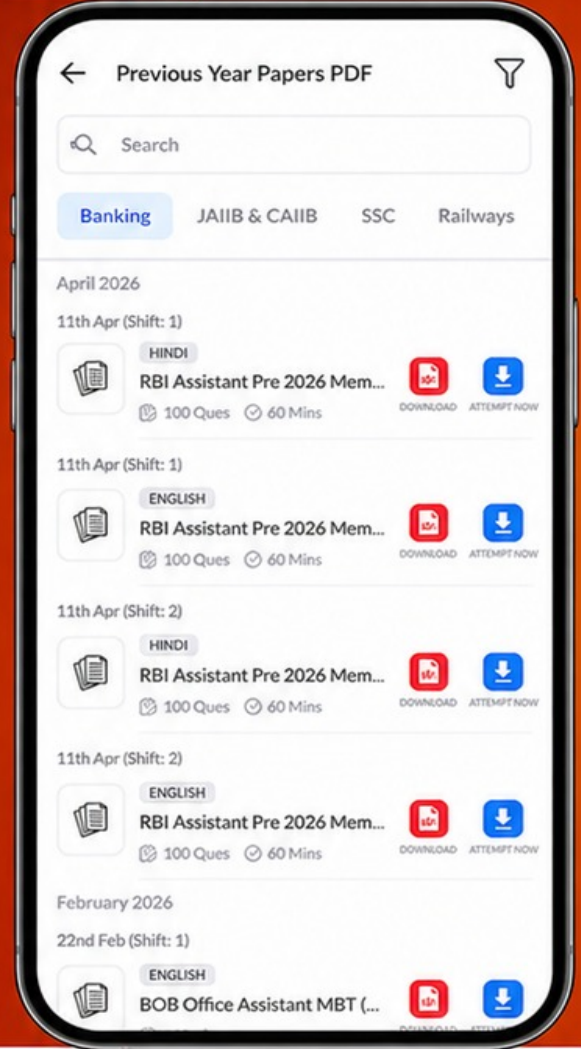
Free  
**25,000+**  
PDF's

High-Quality | Exam-Wise | Updated Regularly

ATTEMPT AS  
**MOCK**



Turn PDFs into real exam experience.  
Analyze. Improve. Succeed.



Topic-wise &  
Exam-wise PDFs



Download &  
Study Offline



Attempt as Mock  
& Track Score



Smart Analysis  
& Performance

AVAILABLE IN



Banking



SSC



Railway



Teaching



UGC



Agriculture



Nursing



Bihar



UP



Punjab



WB



Odisha



TN



AP & Telangana



Haryana



DOWNLOAD THE APP



