

Delhi Forest Wildlife Guard

Previous Year Paper
15 March 2020 Shift 2

**Test
Prime**

By Adda247

ALL EXAMS, ONE SUBSCRIPTION



Test. Analyze. Improve. Repeat.



Don't just *prepare*. *Perform*.

Test Prime — built only for mock tests.



1,50,000+
Mock Tests



25,000+
Previous Year Papers



800+
Exam Covered



500% Refund
on Selection



5 lakh+
Free Quizzes



Daily
Free PDFs



Job Alerts
Stay Updated

- Multilingual
- Detailed Solution
- Strong and Weak Areas



**All India
Rankings**

Compete with lakhs.
Rank. Improve. Repeat.



← Adda247 test prime

Rating ▾

Editors' choice

New



Adda247 Test Prime
Adda Education • Education
📌 Installed



DOWNLOAD THE APP



Forest Department



Participant ID	
Participant Name	
Test Center Name	
Test Date	15/03/2020
Test Time	2:00 PM - 4:00 PM
Subject	Wildlife Guard

Section : General Intelligence and Reasoning Ability

Q.1 उस विकल्प का चयन करें, जिसका तीसरे पद के साथ वही संबंध है, जो दूसरे पद का पहले पद से है।

Robust : Weak :: Lethargy : ?

- Ans
- 1. Alertness (मुस्तैदी)
 - 2. Lifeless (निष्प्राण)
 - 3. Laziness (आलस्य)
 - 4. Tired (थका हुआ)

Question ID : 59445919360
Status : Not Answered
Chosen Option : --

Q.2 संख्याओं के चार समूह दिए गए हैं, जिनमें से तीन किसी तरह से संगत हैं और एक असंगत है। उस समूह का चयन करें, जो अन्य से असंगत है।

- Ans
- 1. 9 : 63 : 189
 - 2. 6 : 42 : 126
 - 3. 8 : 56 : 166
 - 4. 7 : 49 : 147

Question ID : 59445919370
Status : Answered
Chosen Option : 3

Q.3 उस विकल्प का चयन करें, जिसका पांचवीं संख्या के साथ वही संबंध है, जो दूसरी संख्या का पहली संख्या से है और चौथी संख्या का तीसरी संख्या से है।
11 : 169 :: 14 : 256 :: 15 : ?

- Ans
- 1. 285
 - 2. 289
 - 3. 287
 - 4. 276

Question ID : 59445919374

Status : Answered

Chosen Option : 2

Q.4 शुभम का घर पश्चिम की ओर है। वह अपने घर के पिछले दरवाजे से निकलता है और 14 m चलता है। फिर वह बाएं मुड़ता है और 20 m चलता है। फिर वह बाएं मुड़ता है और 40 m चलता है। फिर वह बाएं मुड़ता है और 10 m चलता है। वह फिर बाएं मुड़ता है और 26 m चलता है। वह अपने घर से किस दिशा में कितने मीटर दूर है?

- Ans
- 1. 30 मीटर पश्चिम
 - 2. 68 मीटर दक्षिण-पूर्व
 - 3. 10 मीटर उत्तर में
 - 4. 10 मीटर दक्षिण

Question ID : 59445919385

Status : Answered

Chosen Option : 4

Q.5 एक निश्चित कूट भाषा में, 'MORAL' को N4S1M लिखा जाता है। उसी कूट भाषा में 'ETHIC' को किस प्रकार लिखा जाएगा?

- Ans
- 1. 5UI9D
 - 2. 2TI3C
 - 3. 2UI3D
 - 4. F5I3E

Question ID : 59445919391

Status : Answered

Chosen Option : 4

Q.6 निम्नलिखित चार में से तीन शब्द-युग्म एक निश्चित तरीके से संगत हैं और एक असंगत है। असंगत का चयन कीजिए।

- Ans
- 1. पतलून- परिधान
 - 2. इरेज़र - स्टेशनरी
 - 3. कुर्सी - मेज
 - 4. प्लेट- क्रॉकरी

Question ID : 59445919358

Status : Answered

Chosen Option : 3

Q.7 दिए गए समीकरण में बराबर (=) चिह्न के दोनों ओर या एक ही ओर के कौन से दो पदों को आपस में बदलने पर बराबर (=) चिह्न के दोनों ओर के व्यंजकों का मान एक समान होगा।

$$8 \times 2 - 3 + 12 \div 7 = 2 \times 6 + 9 \div 3 - 2$$

- Ans
- 1. 8, 9
 - 2. 3, 9
 - 3. 6, 8
 - 4. 7, 6

Question ID : 59445919378

Status : Answered

Chosen Option : 4

Q.8 E, F, G, H, I, J, K और L एक दूसरे से समान दूरी पर समान क्रम में दक्षिणावर्त दिशा में एक वृत्ताकार मेज के चारों ओर बैठे हैं। फिर F और K अपने स्थान आपस में बदल लेते हैं। यदि अब J के सामने की ओर उत्तर-पूर्व दिशा है, तो K के सामने की ओर कौन सी दिशा होगी?

- Ans
- 1. दक्षिण
 - 2. दक्षिण-पश्चिम
 - 3. उत्तर-पश्चिम
 - 4. उत्तर

Question ID : 59445919366

Status : Not Answered

Chosen Option : --

Q.9 एक स्कूल के हालिया सर्वेक्षण से पता चला कि 56% छात्रों ने 40-75 प्रतिशत के बीच अंक प्राप्त किए, शेष में से 25% छात्रों ने 75 प्रतिशत अंकों से अधिक अंक प्राप्त किए और शेष छात्रों ने 40 प्रतिशत से कम अंक प्राप्त किए। कितने प्रतिशत छात्रों ने 75 प्रतिशत से अधिक अंक प्राप्त किए?

- Ans
- 1. 44%
 - 2. 11%
 - 3. 23%
 - 4. 33%

Question ID : 59445919383

Status : Not Answered

Chosen Option : --

Q.10 एक फाइल कैबिनेट में आठ फाइलें एक दूसरे के ऊपर रखी गई हैं। ऊपर से गिनती करने पर, दूसरी, पांचवीं और छठवीं फाइलें, व्ययों से संबंधित हैं। व्ययों से संबंधित दो फाइलें, वेतन से संबंधित दो फाइलों के बीच रखी गई हैं। व्यय से संबंधित एक फाइल, एचआर से संबंधित दो फाइलों के बीच रखी गई है। उपस्थिति से संबंधित फाइल के ऊपर रखी फाइल, वेतन से संबंधित फाइल है। इनमें से किससे संबंधित फाइल सबसे ऊपर रखी गई है?

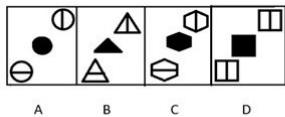
- Ans
- 1. वेतन
 - 2. एचआर
 - 3. उपस्थिति
 - 4. व्यय

Question ID : 59445919367

Status : Not Answered

Chosen Option : --

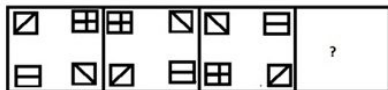
Q.11 नीचे चार आकृतियां दी गई हैं, जिनमें से एक के अलावा अन्य सभी किसी तरह से संगत हैं, जबकि एक असंगत है। असंगत आकृति का चयन करें।



- Ans
- 1. D
 - 2. A
 - 3. B
 - 4. C

Question ID : 59445919387
Status : Answered
Chosen Option : 1

Q.12 उस आकृति का चयन करें, जो निम्नलिखित श्रृंखला में प्रश्न चिह्न (?) के स्थान पर आ सकती हो।



- Ans
- 1.
 - 2.
 - 3.
 - 4.

Question ID : 59445919388
Status : Answered
Chosen Option : 4

Q.13 उस विकल्प का चयन करें, जिसका तीसरे पद के साथ वही संबंध है, जो दूसरे पद का पहले पद से है और छठे पद का पांचवें पद से है।
72 : 90 :: 144 : ? :: 48 : 60

- Ans
- 1. 182
 - 2. 176
 - 3. 162
 - 4. 180

Question ID : 59445919373

Status : Answered

Chosen Option : 4

Q.14 अक्षरों का एक समूह दिया गया है, जिन्हें 1 से 8 तक अंक दिए गए हैं। नीचे दिए गए चार विकल्प इन अंकों के संयोजनों को दर्शाते हैं। अंकों के उस संयोजन का चयन करें, जिसके अनुसार अक्षरों को व्यवस्थित करने पर एक सार्थक शब्द प्राप्त हो।

E I U E N V S R
1 2 3 4 5 6 7 8

- Ans
- 1. 6, 3, 5, 2, 7, 1, 4, 8
 - 2. 6, 3, 5, 2, 1, 4, 8, 7
 - 3. 3, 5, 2, 6, 4, 1, 7, 8
 - 4. 3, 5, 2, 6, 4, 8, 7, 1

Question ID : 59445919355

Status : Answered

Chosen Option : 4

Q.15 उस अक्षर का चयन करें, जो निम्नलिखित श्रृंखला में प्रश्न चिह्न (?) के स्थान पर आएगा।

Z, T, P, J, F, ?

- Ans
- 1. J
 - 2. L
 - 3. Z
 - 4. X

Question ID : 59445919352

Status : Answered

Chosen Option : 3

Q.16 अगर आकृति 1 को घड़ी की सुई की दिशा में 90° घुमाया जाता है, तो सही क्रम का चयन करें।



1 2 3 4 5

- Ans
- 1. 1,4, 5, 2, 3
 - 2. 1, 5, 3, 4, 2
 - 3. 1, 5, 2, 3, 4
 - 4. 1, 2, 3, 4, 5

Question ID : 59445919379
Status : Answered
Chosen Option : 1

Q.17 Amble' का 'Elephant' से वही संबंध है, जो 'Prowl' का _____ से है।

- Ans
- 1. Lamb (मेमना)
 - 2. Bear (भालू)
 - 3. Horse (घोड़ा)
 - 4. Lion (सिंह)

Question ID : 59445919359
Status : Not Answered
Chosen Option : --

Q.18 उस पद का चयन करें, जो निम्नलिखित श्रृंखला में प्रश्न चिह्न (?) के स्थान पर आएगा।

DYK, GTR, JOY, MJF, ?

- Ans
- 1. ODN
 - 2. OFM
 - 3. PEN
 - 4. PEM

Question ID : 59445919353
Status : Answered
Chosen Option : 4

Q.19 एक कक्षा में लड़कियों और लड़कों की संख्याओं का अनुपात 4 : 7 है। यदि लड़कों की संख्या और लड़कियों की संख्या का अंतर 6 है, तो लड़कियों की कुल संख्या ज्ञात कीजिए

- Ans
- 1. 22
 - 2. 14
 - 3. 8
 - 4. 20

Question ID : 59445919381
Status : Answered
Chosen Option : 3

Q.20 यदि गणितीय चिहनों और संख्याओं को नीचे दिए गए अनुसार आपस में बदल दिया जाता है, तो निम्नलिखित में से कौन सा समीकरण संतुलित होगा?

आपस में बदलने हेतु :

गणितीय चिह्न : - और ×

संख्या : 6 और 4

- Ans
- 1. $7 - 4 \times 6 = 17$
 - 2. $4 - 6 \times 7 = 17$
 - 3. $6 \times 4 - 7 = 17$
 - 4. $4 \times 6 - 7 = 17$

Question ID : 59445919377

Status : Not Answered

Chosen Option : --

Q.21 उस विकल्प का चयन करें, जिसका तीसरे पद के साथ वही संबंध है, जो दूसरे पद का पहले पद से है।

26 : 38 :: 18 : ?

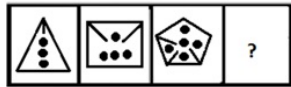
- Ans
- 1. 20
 - 2. 28
 - 3. 26
 - 4. 24

Question ID : 59445919390

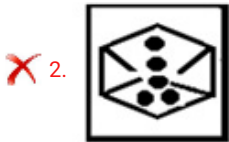
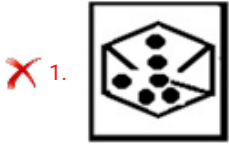
Status : Answered

Chosen Option : 3

Q.22 उस आकृति का चयन करें, जो निम्नलिखित श्रृंखला में प्रश्न चिह्न (?) के स्थान पर आ सकती हो।



Ans



Question ID : 59445919386

Status : Answered

Chosen Option : 4

Q.23 यदि 'R' का अर्थ जोड़ना है, 'T' का अर्थ घटाना है, 'S' का अर्थ गुणा है और 'U' का अर्थ भाग है, तो निम्नलिखित व्यंजक का मान ज्ञात कीजिए।

$$14 T 5 R 18 U 9 S 7 = ?$$

Ans ✗ 1. 25

✗ 2. 27

✓ 3. 23

✗ 4. 24

Question ID : 59445919382

Status : Answered

Chosen Option : 3

Q.24 उस विकल्प का चयन करें, जिसका तीसरे पद के साथ वही संबंध है, जो दूसरे पद का पहले पद से है और छठे पद का पांचवें पद से है।

24 : 42 :: 52 : ? :: 36 : 63

- Ans
- 1. 84
 - 2. 91
 - 3. 90
 - 4. 98

Question ID : 59445919372
Status : Answered
Chosen Option : 2

Q.25 G, X की बहन है। Q, G का भाई है और V, Y का भाई है। Y, X की पुत्री है। V का Q से क्या संबंध है?

- Ans
- 1. चाचा/मामा/फूफा/मौसा/ताऊ
 - 2. पुत्र
 - 3. भतीजा/भांजा
 - 4. भतीजी/भांजी

Question ID : 59445919365
Status : Not Answered
Chosen Option : --

Q.26 एक निश्चित कूट भाषा में, T को H, H को O, O को S, S को U, और U को T के रूप में लिखा जाता है, तो उसी कूट भाषा में SHOUT को किस प्रकार लिखा जाएगा?

- Ans
- 1. UOSHT
 - 2. UOSTH
 - 3. OSUTH
 - 4. OUSHT

Question ID : 59445919361
Status : Answered
Chosen Option : 2

Q.27 निम्नलिखित चार अक्षर-समूहों में से तीन एक निश्चित तरीके से संगत हैं और एक असंगत है। असंगत का चयन कीजिए।

- Ans
- 1. MOQS
 - 2. CEFH
 - 3. GIKM
 - 4. SUWY

Question ID : 59445919356
Status : Answered
Chosen Option : 2

Q.28 एक मैराथन दौड़ में, विवान अक्षय से आगे है। ऋषि, जीवन से पीछे है, जो अक्षय से पीछे है। मनु अक्षय से आगे है, लेकिन विवान से पीछे है। जिमी विवान से आगे है। उपरोक्त कथनों से इनमें से कौन सा निष्कर्ष निश्चित रूप से निकाला जा सकता है?

- Ans
- 1. विवान उनमें से सभी से आगे है।
 - 2. मनु जिमी से आगे है।
 - 3. ऋषि उनमें से सभी से पीछे है।
 - 4. जीवन मनु से आगे है।

Question ID : 59445919364
Status : Not Answered
Chosen Option : --

Q.29 वैभव ने अपने घर से शुरू करके पूर्व की ओर 20 km की दूरी तय की। फिर वह दाएं मुड़ा और 15 km की दूरी तय की। फिर वह दाएं मुड़ा और 10 km की दूरी तय की। फिर वह दाएं मुड़ा और 15 km की दूरी तय करके बिंदु 'X' पर पहुंचा। बिंदु 'X', उसके घर से कितनी दूरी पर और किस दिशा में स्थित है?

- Ans
- 1. 10 km पूर्व में
 - 2. 10 km पश्चिम में
 - 3. 30 km पूर्व में
 - 4. 30 km पश्चिम में

Question ID : 59445919384
Status : Answered
Chosen Option : 2

Q.30 निम्नलिखित चार शब्दों में से तीन एक निश्चित तरीके से संगत हैं और एक असंगत है। असंगत का चयन कीजिए।

- Ans
- 1. Uninteresting (रसहीन)
 - 2. Monotonous (नीरस)
 - 3. Boring (उबाऊ)
 - 4. Enticing (मोहक)

Question ID : 59445919357
Status : Answered
Chosen Option : 4

Q.31 एक निश्चित कूट भाषा में, STABLE को 121235 लिखा जाता है। उसी कूट भाषा में IMPART को किस प्रकार लिखा जाएगा?

- Ans
- 1. 947192
 - 2. 948192
 - 3. 987192
 - 4. 947182

Question ID : 59445919363
Status : Not Answered
Chosen Option : --

Q.32 उस आकृति का चयन करें, जो निम्नलिखित श्रृंखला में प्रश्न चिह्न (?) के स्थान पर आ सकती हो।

# @ * \$	\$ * @ %	% @ * !	?
----------	----------	---------	---

Ans

✗ 1. O @ * !

✗ 2. O * @ !

✓ 3. ! * @ O

✗ 4. ! @ * O

Question ID : 59445919389
Status : Answered
Chosen Option : 3

Q.33 उस संख्या का चयन करें, जो निम्नलिखित श्रेणी में प्रश्नवाचक चिह्न (?) के स्थान पर आ सकती हो।

15, 18, 24, 33, ?, 60

- Ans
- ✗ 1. 46
 - ✗ 2. 42
 - ✗ 3. 44
 - ✓ 4. 45

Question ID : 59445919368
Status : Answered
Chosen Option : 4

Q.34 दिए गए शब्द के अक्षरों का उपयोग करके इनमें से कौन सा शब्द नहीं बनाया जा सकता है, जबकि प्रत्येक अक्षर को उतनी ही बार प्रयोग किया गया हो, जितनी बार उन्हें दिए गए शब्द में प्रयोग किया गया है?

EXCITEMENT

- Ans
- 1. MITTEN
 - 2. CEMENT
 - 3. EXTENT
 - 4. INCITE

Question ID : 59445919354
Status : Answered
Chosen Option : 4

Q.35 निम्नलिखित में से कौन से दो गणितीय चिहनों को आपस में बदलने पर दिया गया समीकरण संतुलित हो जाएगा?

$$25 - 5 + 6 + 4 \times 3 = 11$$

- Ans
- 1. ÷ और +
 - 2. × और +
 - 3. ÷ और -
 - 4. × और ÷

Question ID : 59445919375
Status : Not Answered
Chosen Option : --

Q.36 दिए गए पैटर्न का ध्यानपूर्वक अध्ययन करें और उस संख्या का चयन करें, जो इसमें प्रश्न चिह्न (?) के स्थान पर आ सकती हो।

3	6	9
4	5	?
8	4	16

- Ans
- 1. 10
 - 2. 6
 - 3. 4
 - 4. 8

Question ID : 59445919380
Status : Not Answered
Chosen Option : --

Q.37 अगर दक्षिण-पश्चिम, उत्तर बन जाता है, तो दक्षिण-पूर्व, पश्चिम हो जाता है। उत्तर पूर्व क्या बनेगा?

- Ans 1. दक्षिण
 2. उत्तर
 3. पश्चिम
 4. पूर्व

Question ID : 59445919371
 Status : Answered
 Chosen Option : 1

Q.38 × संकेतों को बदलने और निम्नलिखित समीकरण को संतुलित करने के लिए गणितीय संकेतों के सही संयोजन का चयन करें।

$$10 \times (7 \times 12 \times 4) \times 15 \times 4$$

- Ans 1. — × ÷ + =
 2. + × ÷ — =
 3. + — × ÷ =
 4. ÷ — × + =

Question ID : 59445919369
 Status : Not Answered
 Chosen Option : --

Q.39 यदि 'pen' को 'eraser', 'eraser' को 'pencil', 'pencil' को 'stapler', और 'stapler' को 'book' कहा जाता है, तो कोई व्यक्ति चीजों को एक साथ पिन करने के लिए इनमें से किसका इस्तेमाल करेगा?

- Ans 1. पेन
 2. स्टेपलर
 3. रबड़
 4. पुस्तक

Question ID : 59445919362
 Status : Answered
 Chosen Option : 4

Q.40 निम्नलिखित में से कौन सी दो संख्याओं को आपस में बदलने पर दिया गया समीकरण संतुलित हो जाएगा?

$$9 \times 16 \div 8 + 5 - 7 = 12$$

- Ans 1. 8 और 5
 2. 5 और 9
 3. 7 और 5
 4. 9 और 7

Question ID : 59445919376
 Status : Not Answered
 Chosen Option : --

Q.1 निम्नलिखित में से कौन सा देश उस सन क्रीम पर प्रतिबंध लगाने वाला पहला देश है, जिसमें प्रवाल भित्तियों के लिए हानिकारक रसायन मौजूद हैं?

- Ans
- 1. न्यूज़ीलैंड
 - 2. ऑस्ट्रेलिया
 - 3. पलाउ
 - 4. कनाडा

Question ID : 59445919394
Status : Answered
Chosen Option : 3

Q.2 निम्नलिखित में से किस समुदाय के नव वर्ष महोत्सव को "पटेटी" के नाम से भी जाना जाता है?

- Ans
- 1. बौद्ध धर्म
 - 2. लिगायत
 - 3. पारसी
 - 4. जैन

Question ID : 59445919417
Status : Not Answered
Chosen Option : --

Q.3 जनवरी 2020 तक प्राप्त जानकारी के अनुसार, भारत में यूनेस्को द्वारा चिह्नित बायोस्फीयर रिज़र्व की संख्या कितनी है?

- Ans
- 1. 10
 - 2. 11
 - 3. 9
 - 4. 8

Question ID : 59445919426
Status : Answered
Chosen Option : 2

Q.4 भारतीय संविधान के किस अनुच्छेद में 'जीवन की सुरक्षा एवं व्यक्तिगत स्वतंत्रता' को एक मौलिक अधिकार घोषित किया गया है?

- Ans
- 1. अनुच्छेद 21
 - 2. अनुच्छेद 19
 - 3. अनुच्छेद 17
 - 4. अनुच्छेद 25

Question ID : 59445919408
Status : Answered
Chosen Option : 1

Q.5 निम्नलिखित में से किस क्रिकेटर को अंतर्राष्ट्रीय क्रिकेट परिषद (ICC) द्वारा "स्पिरिट ऑफ क्रिकेट" पुरस्कार से सम्मानित किया गया था?

- Ans
- 1. नाथन ल्योन
 - 2. शार्ड होप
 - 3. रोहित शर्मा
 - 4. विराट कोहली

Question ID : 59445919412
Status : Answered
Chosen Option : 4

Q.6 निम्नलिखित उद्यमियों में से कौन OYO होटल्स एंड होम्स नामक कंपनी के संस्थापक हैं?

- Ans
- 1. रितेश अग्रवाल
 - 2. हिमांशु गोयल
 - 3. भावेश अग्रवाल
 - 4. भाविन तुरखिया

Question ID : 59445919427
Status : Not Answered
Chosen Option : --

Q.7 केंद्र सरकार के "जल जीवन मिशन" नामक कार्यक्रम का उद्देश्य _____ तक हर घर तक कार्यात्मक घरेलू नल कनेक्शन प्रदान करना है।

- Ans
- 1. 2026
 - 2. 2025
 - 3. 2028
 - 4. 2024

Question ID : 59445919399
Status : Answered
Chosen Option : 4

Q.8 केंद्र सरकार ने राष्ट्रीय गंगा परिषद का गठन किया है और इसे गंगा और उसकी सहायक नदियों सहित गंगा नदी के तट के प्रदूषण निवारण एवं कायाकल्प के अधीक्षण की पूरी जिम्मेदारी प्रदान की है। इस परिषद का अध्यक्ष कौन है?

- Ans
- 1. उत्तर प्रदेश के मुख्यमंत्री
 - 2. भारत के गृहमंत्री
 - 3. भारत के जल शक्ति मंत्री
 - 4. भारत के प्रधान मंत्री

Question ID : 59445919407
Status : Answered
Chosen Option : 4

Q.9 निम्नलिखित में से किस मुगल शासक को "आलमगीर" नाम दिया गया था?

- Ans 1. औरंगजेब
 2. शाहजहां
 3. अकबर
 4. बाबर

Question ID : 59445919405
Status : Answered
Chosen Option : 1

Q.10 भारतीय खिलाड़ी कोनेरू हम्पी एक पेशेवर _____ खिलाड़ी है।

- Ans 1. तीरंदाजी
 2. बैडमिंटन
 3. शतरंज
 4. क्रिकेट

Question ID : 59445919413
Status : Not Answered
Chosen Option : --

Q.11 निम्नलिखित में से किस शहर को गुलाबी शहर के नाम से भी जाना जाता है?

- Ans 1. जयपुर
 2. अमृतसर
 3. कोलकाता
 4. अहमदाबाद

Question ID : 59445919416
Status : Answered
Chosen Option : 1

Q.12 केंद्रीय बजट 2020-21 में 2024 तक _____ और हवाई अड्डों का लक्ष्य निर्धारित किया गया है।

- Ans 1. 120
 2. 150
 3. 100
 4. 140

Question ID : 59445919429
Status : Answered
Chosen Option : 2

Q.13 चूड़धार अभयारण्य निम्नलिखित में से किस राज्य में स्थित है?

- Ans
- 1. ओडिशा
 - 2. झारखण्ड
 - 3. हिमाचल प्रदेश
 - 4. अरुणाचल प्रदेश

Question ID : 59445919423
Status : Not Answered
Chosen Option : --

Q.14 _____ का पर्यटन विभाग प्रतिवर्ष निशागांधी नृत्य उत्सव का आयोजन करता है।

- Ans
- 1. राजस्थान
 - 2. झारखण्ड
 - 3. केरल
 - 4. गुजरात

Question ID : 59445919421
Status : Not Answered
Chosen Option : --

Q.15 निम्नलिखित में से किसे ब्राह्मी लिपि के गूढ़वाचन का श्रेय दिया जाता है?

- Ans
- 1. एचटी कोलब्रुक
 - 2. अलेक्जेंडर कनिंघम
 - 3. जेम्स प्रिंसेप
 - 4. आरएन दांडेकर

Question ID : 59445919404
Status : Not Answered
Chosen Option : --

Q.16 दिसंबर 2019 में, एक भारतीय राज्य की विधायिका ने बलात्कार और गैंगरेप के अपराधों के लिए मौत की सजा देने और ऐसे मामलों की सुनवाई को 21 दिनों के भीतर पूरा करने के लिए एक कानून बनाया। वह राज्य निम्नलिखित में से कौन सा है?

- Ans
- 1. पश्चिम बंगाल
 - 2. आंध्र प्रदेश
 - 3. तमिल नाडु
 - 4. केरल

Question ID : 59445919403
Status : Answered
Chosen Option : 2

Q.17 वर्ल्ड लैंग्वेज डाटाबेस एथनोलॉग के अनुसार, 2019 में हिंदी विश्व की _____ सर्वाधिक बोली जाने वाली भाषा थी।

- Ans
- 1. चौथी
 - 2. पाँचवीं
 - 3. छठवीं
 - 4. तीसरी

Question ID : 59445919400
Status : Answered
Chosen Option : 4

Q.18 निम्नलिखित में से किस संस्थान का नाम दिवंगत राजनीतिज्ञ मनोहर पर्रिकर के नाम पर रखा गया था?

- Ans
- 1. राष्ट्रीय रक्षा अकादमी
 - 2. हाई एल्टीट्यूड वारफेयर स्कूल
 - 3. रक्षा अध्ययन और विश्लेषण संस्थान
 - 4. भारतीय सैन्य अकादमी

Question ID : 59445919401
Status : Answered
Chosen Option : 2

Q.19 निम्नलिखित में से किस शहर को आंध्र प्रदेश की कार्यकारी राजधानी के रूप में प्रस्तावित किया गया है?

- Ans
- 1. विशाखापत्तनम
 - 2. गुंटुर
 - 3. विजयवाड़ा
 - 4. काकीनाडा

Question ID : 59445919402
Status : Answered
Chosen Option : 4

Q.20 निम्नलिखित में से कौन सी सशस्त्र सेना 2020 को 'वर्ष की गतिशीलता (इयर ऑफ़ मोबिलिटी)' के रूप में मना रही है, जिसके तहत इसके सैनिकों के कल्याण के लिए विभिन्न कदम उठाए जाएंगे?

- Ans
- 1. सीआईएसएफ (CISF)
 - 2. आईटीबीपी (ITBP)
 - 3. सीआरपीएफ (CRPF)
 - 4. एनएसजी (NSG)

Question ID : 59445919397
Status : Answered
Chosen Option : 3

Q.21 कर्नाटक में स्थित श्रावणबेलागोला इनमें से किसका प्रसिद्ध धार्मिक तीर्थ स्थल है?

- Ans
- 1. शैव अनुयायियों का
 - 2. बौद्ध धर्म का
 - 3. शक्ति के उपासकों का
 - 4. जैन धर्म का

Question ID : 59445919418
Status : Not Answered
Chosen Option : --

Q.22 'नेटवर्क 18 मीडिया एंड इनवेस्टमेंट्स ग्रुप' इनमें से किसके द्वारा नियंत्रित मीडिया हाउस है?

- Ans
- 1. आदित्य बिरला ग्रुप
 - 2. रिलायंस इंडस्ट्रीज़ लिमिटेड
 - 3. अनिल धीरूभाई अंबानी ग्रुप
 - 4. टाटा ग्रुप

Question ID : 59445919396
Status : Not Answered
Chosen Option : --

Q.23 संयुक्त राष्ट्र पर्यावरण कार्यक्रम के तत्वावधान में, कोलंबो घोषणा 2019 का लक्ष्य सतत _____ प्रबंधन है।

- Ans
- 1. ऑक्सीजन
 - 2. नाइट्रोजन
 - 3. कार्बन
 - 4. ओज़ोन

Question ID : 59445919393
Status : Answered
Chosen Option : 4

Q.24 विकल्पों में वर्णित झीलों में से कौन सी भारत में स्थित ताजे पानी की झील नहीं है?

- Ans
- 1. बारापनी
 - 2. सांभर झील
 - 3. डल झील
 - 4. लोकतक

Question ID : 59445919392
Status : Answered
Chosen Option : 2

Q.25 भारतीय संविधान के निम्नलिखित में से किस अनुच्छेद के अंतर्गत मौलिक अधिकारों को परिभाषित किया गया है?

- Ans 1. अनुच्छेद 12
 2. अनुच्छेद 15
 3. अनुच्छेद 14
 4. अनुच्छेद 16

Question ID : 59445919409
Status : Answered
Chosen Option : 1

Q.26 निम्नलिखित में से कौन सा राज्य खेलो इंडिया यूथ गेम्स 2020 में पदक तालिका में दूसरे स्थान पर रहा?

- Ans 1. आंध्र प्रदेश
 2. कर्नाटक
 3. हरियाणा
 4. मध्य प्रदेश

Question ID : 59445919414
Status : Answered
Chosen Option : 3

Q.27 श्री हरमंदिर साहिब नामक प्रसिद्ध गुरुद्वारा निम्नलिखित में से किस राज्य में स्थित है?

- Ans 1. पंजाब
 2. हिमाचल प्रदेश
 3. उत्तराखण्ड
 4. महाराष्ट्र

Question ID : 59445919419
Status : Answered
Chosen Option : 1

Q.28 Which of the following agencies performs Open Market Operations in order to ensure desired liquidity in country's financial system?

- Ans 1. Reserve Bank of India
 2. Securities Exchange Board of India
 3. Ministry of Finance
 4. State Bank of India

Question ID : 59445919430
Status : Answered
Chosen Option : 2

Q.29 निम्नलिखित में से किस नदी का उद्गम महाबलेश्वर के पास स्थित है?

- Ans
- 1. महानदी
 - 2. गोदावरी नदी
 - 3. कृष्णा
 - 4. तापी

Question ID : 59445919422
Status : Not Answered
Chosen Option : --

Q.30 निम्नलिखित में से कौन सा केंद्रीय बजट 2020-21 में शामिल तीन प्रमुख विषय-वस्तुओं में से एक नहीं था?

- Ans
- 1. केयरिंग सोसाइटी (Caring Society)
 - 2. रेज़ीलेंट इंडिया (Resilient India)
 - 3. एस्पिरेशनल इंडिया (Aspirational India)
 - 4. सभी के लिए आर्थिक विकास (Economic development for all)

Question ID : 59445919431
Status : Not Answered
Chosen Option : --

Q.31 भारतीय संविधान के अनुच्छेद ___ में अस्पृश्यता प्रथा को असंवैधानिक घोषित किया गया है।

- Ans
- 1. 19
 - 2. 17
 - 3. 20
 - 4. 21

Question ID : 59445919410
Status : Not Answered
Chosen Option : --

Q.32 बैलाडीला कोयला खदानें निम्नलिखित में से किस राज्य में स्थित हैं?

- Ans
- 1. केरल
 - 2. तमिल नाडु
 - 3. छत्तीसगढ़
 - 4. कर्नाटक

Question ID : 59445919424
Status : Answered
Chosen Option : 3

Q.33 अमेरिका स्थित थिंक टैंक - वर्ल्ड पॉपुलेशन रीव्यू की रिपोर्ट के अनुसार, भारतीय अर्थव्यवस्था 2019 के दौरान _____ सबसे बड़ी अर्थव्यवस्था थी।

- Ans
- 1. पांचवीं
 - 2. सातवीं
 - 3. छठवीं
 - 4. चौथी

Question ID : 59445919428
Status : Answered
Chosen Option : 3

Q.34 निम्नलिखित में से किस राष्ट्रीय उद्यान को 23 फीट लंबे सफेद मगरमच्छ होने का गौरव प्राप्त है?

- Ans
- 1. बांधवगढ़ राष्ट्रीय उद्यान
 - 2. रणथंभौर राष्ट्रीय उद्यान
 - 3. कान्हा राष्ट्रीय उद्यान
 - 4. भितरकनिका राष्ट्रीय उद्यान

Question ID : 59445919395
Status : Not Answered
Chosen Option : --

Q.35 "बालि यात्रा" नामक त्योहार निम्नलिखित में से किस राज्य में मनाया जाता है?

- Ans
- 1. ओडिशा
 - 2. तमिल नाडु
 - 3. केरल
 - 4. आंध्र प्रदेश

Question ID : 59445919420
Status : Not Answered
Chosen Option : --

Q.36 प्रत्येक वर्ष के पहले सत्र के आरंभ में, भारतीय संसद के दोनों सदनों को निम्नलिखित में से किसके द्वारा संबोधित किया जाता है?

- Ans
- 1. प्रधानमंत्री
 - 2. राज्यसभा सभापति द्वारा
 - 3. लोकसभा अध्यक्ष द्वारा
 - 4. राष्ट्रपति

Question ID : 59445919411
Status : Answered
Chosen Option : 4

Q.37 निम्नलिखित में से किस संक्षिप्त शब्द का अभिप्राय केंद्र सरकार की शून्य निवारक मातृ एवं नवजात मृत्यु से संबंधित योजना से अभिप्रेत है?

- Ans
- 1. SUMAN (सुमन)
 - 2. KUSUM (कुसुम)
 - 3. UJALA (उजाला)
 - 4. PRABHAT (प्रभात)

Question ID : 59445919398
Status : Answered
Chosen Option : 2

Q.38 निम्नलिखित में से कौन सी खिलाड़ी, महिला वर्ल्ड रैपिड शतरंज चैम्पियनशिप की उपविजेता थी?

- Ans
- 1. मुंगुटल बटखुयाग
 - 2. लेई तिगजी
 - 3. बाबई ओल्गा
 - 4. ओसमक इउलिजा

Question ID : 59445919415
Status : Not Answered
Chosen Option : --

Q.39 ओखा बंदरगाह निम्नलिखित में से किस राज्य में स्थित है?

- Ans
- 1. कर्नाटक
 - 2. आंध्र प्रदेश
 - 3. ओडिशा
 - 4. गुजरात

Question ID : 59445919425
Status : Not Answered
Chosen Option : --

Q.40 निम्नलिखित क्रांतिकारियों में से किसे "मास्टरदा" के नाम से भी जाना जाता है?

- Ans
- 1. अशफाक उल्ला खान
 - 2. राजगुरु
 - 3. भगत सिंह
 - 4. सूर्य सेन

Question ID : 59445919406
Status : Not Answered
Chosen Option : --

Q.1 श्री A और श्री B की औसत आय 6400 रुपये है, B और C की 6000 है तथा A और C की 6800 है। श्री A की आय कितनी है?

- Ans
- 1. 8000 रुपये
 - 2. 8500 रुपये
 - 3. 7200 रुपये
 - 4. 7000 रुपये

Question ID : 59445919453
Status : Answered
Chosen Option : 3

Q.2 4 आदमी और 6 औरतें एक खेत को 8 दिन में जोत सकते हैं, 3 आदमी और 7 औरतें उसी खेत को 10 दिन में जोत सकते हैं। उस खेत को 10 औरतें कितने दिन में जोत सकती हैं?

- Ans
- 1. 1 दिन
 - 2. 30 दिन
 - 3. 40 दिन
 - 4. 12 दिन

Question ID : 59445919470
Status : Answered
Chosen Option : 2

Q.3 यदि संख्या 2634A2 पूर्णतया 3 से विभाज्य है और A एक अंक की पूर्णांक संख्या है, तो A होगा:

- Ans
- 1. 5
 - 2. 0
 - 3. 2
 - 4. 1

Question ID : 59445919435
Status : Answered
Chosen Option : 4

Q.4 What is the place value of 5 in 346.901586?

- Ans
- 1. One ten thousandths
 - 2. Ten
 - 3. One tenth
 - 4. One hundredth

Question ID : 59445919437
Status : Answered
Chosen Option : 4

Q.5 स्वच्छता अभियान के तहत, सरकार ने गाँवों में प्रत्येक सार्वजनिक शौचालय स्थापित करवाने के लिए 1000 रुपये अर्थिक सहायता देने की घोषणा की। यदि किसी गाँव में प्रत्येक शौचालय के निर्माण में 2000 रुपये खर्च हुए और वहाँ 18 सार्वजनिक शौचालयों का निर्माण हुआ, तो बताइए कि उस गाँव ने कुल कितनी आर्थिक सहायता प्राप्त की?

- Ans
- 1. 15000 रुपये
 - 2. 36000 रुपये
 - 3. 18000 रुपये
 - 4. 20000 रुपये

Question ID : 59445919457

Status : Answered

Chosen Option : 3

Q.6 The diagonal of a rectangular field is $15\frac{1}{2}$ feet. Its smaller side is $9\frac{1}{2}$ feet The area of the field is:

- Ans
- 1. 56 sq ft
 - 2. 27 sq ft
 - 3. 124 sq ft
 - 4. $21\frac{1}{2}$ sq feet

Question ID : 59445919464

Status : Not Answered

Chosen Option : --

Q.7 एक परिवार में दादा-दादी/नाना-नानी के 2 जोड़े, माता-पिता के दो जोड़े और 6 बच्चे रहते हैं। यदि दादा-दादी के इन जोड़ों की औसत आयु 60, माता-पिता के इन जोड़ों की औसत आयु 40 और बच्चों की औसत आयु 20 है, तो परिवार के सभी सदस्यों की औसत आयु कितनी है?

- Ans
- 1. 26
 - 2. 32
 - 3. 30
 - 4. 28

Question ID : 59445919452

Status : Answered

Chosen Option : 2

Q.8 $548628.45978 \times 1000000 / 1000000000$ के बराबर है:

- Ans
- 1. 548.628
 - 2. 548628459.78
 - 3. 548.62845988
 - 4. 548.62845978

Question ID : 59445919439

Status : Answered

Chosen Option : 4

Q.9 अधिकतम अनुमानित लंबाई जो 7 मी., 3 मी. 85 सेमी., 12 मी. 95 सेमी. की सटीक लंबाई को मापने के लिए प्रयोग की जा सकती है:

- Ans
- 1. 25 सेमी.
 - 2. 15 सेमी.
 - 3. 35 सेमी.
 - 4. 20 सेमी.

Question ID : 59445919445
Status : Answered
Chosen Option : 3

Q.10 The product of two numbers is 4107. If their HCF is 37, what is their LCM?

- Ans
- 1. 145
 - 2. 462
 - 3. 457
 - 4. 111

Question ID : 59445919442
Status : Answered
Chosen Option : 4

Q.11 A rectangular bedsheet after washing shrunk 20% from length and 10% from breadth. Percentage decrease in area is:

- Ans
- 1. 28%
 - 2. 54%
 - 3. 22%
 - 4. 72%

Question ID : 59445919467
Status : Answered
Chosen Option : 1

Q.12 यदि $a * b = a - b^2 + 3ab(a - b)$ है, तो $2*4$ बराबर है

- Ans
- 1. 45
 - 2. -42
 - 3. -70
 - 4. -62

Question ID : 59445919433
Status : Answered
Chosen Option : 4

Q.13 दो संख्याएँ, तीसरी संख्या से क्रमशः 20% और 50% अधिक है। दो संख्याओं का अनुपात है:

- Ans
- 1. 1:5
 - 2. 4:5
 - 3. 2:5
 - 4. 2:3

Question ID : 59445919447
Status : Answered
Chosen Option : 2

Q.14 $[(2^5 + 5^2 - 2(5)(2)/3]^0$ का मान बराबर है:

- Ans
- 1. 1/2
 - 2. -1
 - 3. 0
 - 4. 1

Question ID : 59445919432
Status : Answered
Chosen Option : 3

Q.15 तीन प्रिंटिंग मशीनें P,Q,R. हैं। मशीन P 8 घंटे में, Q 10 घंटे में, और R 12 घंटे में 1 लाख पृष्ठ छाप सकती है। यदि सभी मशीनें सुबह 9 बजे चलाई जाएं और 11 बजे मशीन P में कुछ तकनीकी समस्या आ जाती है, तो बताइए कितने बजे तक 1 लाख पृष्ठ छप जाएंगे?

- Ans
- 1. 2 बजे अपराह्न
 - 2. दोपहर 12 बजे
 - 3. शाम 5 बजे
 - 4. 1 बजे अपराह्न

Question ID : 59445919471
Status : Not Attempted and
Marked For Review
Chosen Option : --

Q.16 मधु और सुमित को उनका वेतन 2:3 के अनुपात में मिलता है। यदि प्रत्येक का वेतन 4000 रुपये बढ़ा दिया जाता है, तो वेतन का नया अनुपात 40 : 57 हो जाता है। सुमित का बढ़ा हुआ वेतन कितना है?

- Ans
- 1. 26000 रुपये
 - 2. 38000 रुपये
 - 3. 40000 रुपये
 - 4. 34000 रुपये

Question ID : 59445919450
Status : Not Attempted and
Marked For Review
Chosen Option : --

Q.17 यदि P के 5% तथा Q के 4% को एक मिलाया जाए तो यह P के 6% तथा Q के 8% के योग का दो तिहाई है, तो P है:

- Ans 1. Q का चार-तिहाई
 2. Q का पाँचवा भाग
 3. Q का 2/5 भाग
 4. Q का तीन-चौथाई

Question ID : 59445919454
Status : Not Answered
Chosen Option : --

Q.18 श्रृंखला 11,13,17,19,23,25,----- की अगली संख्या होगी:

- Ans 1. 35
 2. 31
 3. 29
 4. 28

Question ID : 59445919434
Status : Answered
Chosen Option : 3

Q.19 न्यूनतम कितने वर्षों में 20% वार्षिक चक्रवृद्धि ब्याज पर कोई धनराशि दुगुनी से अधिक हो जाएगी?

- Ans 1. 4 वर्ष
 2. 3 वर्ष
 3. 2.5 वर्ष
 4. 2 वर्ष

Question ID : 59445919463
Status : Answered
Chosen Option : 4

Q.20 किसी संख्या को 3/7 से गुणा करने के बजाय गलती से 5/7 से गुणा कर दिया गया। कितने प्रतिशत त्रुटि हुई?

- Ans 1. 22/3%
 2. 44/3%
 3. 200/3%
 4. 100/3%

Question ID : 59445919456
Status : Not Answered
Chosen Option : --

Q.21 60 लीटर के मिश्रण में दूध तथा पानी का अनुपात 2:1 है। उसमें कितना पानी और मिलाया जाए ताकि यह अनुपात 1:2 हो जाए?

- Ans
- 1. 20 लीटर
 - 2. 30 लीटर
 - 3. 60 लीटर
 - 4. 40 लीटर

Question ID : 59445919448
Status : Answered
Chosen Option : 3

Q.22 The CSA of a cylindrical pillar is 264 sq m and its volume is 924 sqm. The ratio of its height to the diameter is:

- Ans
- 1. 7:3
 - 2. 2:7
 - 3. 3:7
 - 4. 1:7

Question ID : 59445919465
Status : Not Answered
Chosen Option : --

Q.23 रमन और सुमन दोनों के पास कुल 1210 रुपये हैं। यदि रमन की राशि का $(4/15)$ वां भाग, सुमन की राशि के $(2/5)$ वां भाग के बराबर है, तो सुमन के पास कितनी राशि है?

- Ans
- 1. 400 रुपये
 - 2. 460 रुपये
 - 3. 484 रुपये
 - 4. 450 रुपये

Question ID : 59445919449
Status : Not Answered
Chosen Option : --

Q.24 $\{(3.64)^2 - (1.36)^2\} / \{3.64 - 1.36\}$ का मान है:

- Ans
- 1. 5
 - 2. 4.23
 - 3. 3.5
 - 4. 6

Question ID : 59445919440
Status : Not Answered
Chosen Option : --

Q.25 एक निश्चित धनराशि पर 4% सालाना की दर से 2 वर्षों के लिए साधारण ब्याज और वार्षिक रूप से संयोजित चक्रवृद्धि ब्याज का अंतर 1 रुपया है। वह राशि है:

- Ans
- 1. 500 रुपये
 - 2. 625 रुपये
 - 3. 600 रुपये
 - 4. 400 रुपये

Question ID : 59445919461
Status : Answered
Chosen Option : 2

Q.26 निम्नलिखित में से कौन-सा दशमलव असांत आवर्ती है?

- Ans
- 1. 10.33333333.....
 - 2. 7.56888
 - 3. 7.7878787878
 - 4. 4.0

Question ID : 59445919438
Status : Answered
Chosen Option : 1

Q.27 किसी धनराशि पर 8% प्रतिवर्ष साधारण ब्याज की दर से 3 वर्ष के लिए ब्याज 4000 रुपये पर 2 वर्ष के लिए 10% प्रतिवर्ष की दर से चक्रवृद्धि ब्याज का आधा है। साधारण ब्याज पर दी गई धनराशि है:

- Ans
- 1. 2550 रुपये
 - 2. 1210 रुपये
 - 3. 1750 रुपये
 - 4. 1100 रुपये

Question ID : 59445919462
Status : Not Answered
Chosen Option : --

Q.28 यदि दो संख्याओं का योग 55 है तथा उनके महत्तम समापवर्तक (एच.सी.एफ़) और लघुत्तम समापवर्त्य (एल.सी.एम.) क्रमशः 5 और 120 हैं, तो उन संख्याओं के व्युत्क्रमों का योग है:

- Ans
- 1. 120/11
 - 2. 601/55
 - 3. 11/120
 - 4. 55/601

Question ID : 59445919446
Status : Answered
Chosen Option : 3

Q.29 एक कक्षा में विद्यार्थियों की संख्या का $\frac{3}{4}$ भाग हिन्दी अथवा अंग्रेजी नहीं बोल सकते हैं। उसी कक्षा के विद्यार्थियों का $\frac{1}{6}$ भाग अंग्रेजी बोल सकता है, $\frac{1}{8}$ भाग हिन्दी बोल सकता है। कितने विद्यार्थी अंग्रेजी और हिन्दी दोनों बोल सकते हैं?

- Ans 1. $\frac{1}{24}$
 2. $\frac{1}{5}$
 3. $\frac{2}{3}$
 4. $\frac{1}{8}$

Question ID : 59445919441
Status : Not Answered
Chosen Option : --

Q.30 4.5% प्रति वर्ष की दर से 450 रुपये की धनराशि के लिए 81 रुपये को साधारण ब्याज के रूप में देने में कितना समय लगेगा?

- Ans 1. 4 वर्ष
 2. 3 वर्ष
 3. 5 वर्ष
 4. 2 वर्ष

Question ID : 59445919459
Status : Answered
Chosen Option : 1

Q.31 संख्या 1 से 80 के बीच में कितने प्रतिशत ऐसी संख्याएँ हैं जिनमें 1 या 9 अथवा दोनों अंक आते हैं?

- Ans 1. 25%
 2. 20%
 3. 30%
 4. 10%

Question ID : 59445919455
Status : Answered
Chosen Option : 3

Q.32 तीन संख्याओं का अनुपात 3:4:5 है और उनका लघुत्तम समापवर्त्य (एल.सी.एम.) 2400 है। तदनुसार उनका महत्तम समापवर्तक (एच.सी.एफ़) कितना होगा?

- Ans 1. 40
 2. 60
 3. 42
 4. 46

Question ID : 59445919444
Status : Answered
Chosen Option : 1

Q.33 A एक कार्य को 15 दिन में पूरा करता है, B उसी कार्य को 20 दिन में पूरा करता है। यदि दोनों 4 दिन मिलकर कार्य करें तो कितना कार्य बचेगा?

- Ans
- 1. 8/17
 - 2. 2/5
 - 3. 1/10
 - 4. 8/15

Question ID : 59445919468
Status : Answered
Chosen Option : 4

Q.34 एक धनराशि पर 3 वर्षों में साधारण ब्याज 815 रुपये होता है तथा 4 वर्षों में 854 रुपये हो जाता है। वह धनराशि है:

- Ans
- 1. 698 रुपये
 - 2. 600 रुपये
 - 3. 640 रुपये
 - 4. 650 रुपये

Question ID : 59445919460
Status : Not Answered
Chosen Option : --

Q.35 12 से विभाजित होने वाली 5 अंकों की सबसे बड़ी संख्या है:

- Ans
- 1. 99996
 - 2. 94356
 - 3. 82229
 - 4. 99999

Question ID : 59445919436
Status : Answered
Chosen Option : 1

Q.36 3, 4, 5 सेमी. के तीन घनों को पिघलाकर एक बड़ा घन बनाया गया है। छोटे घनों के कुल पृष्ठीय क्षेत्रफल तथा बड़े घन के पृष्ठीय क्षेत्रफल का अनुपात ज्ञात करें।

- Ans
- 1. 12:17
 - 2. 15:18
 - 3. 25:16
 - 4. 25:18

Question ID : 59445919466
Status : Not Answered
Chosen Option : --

Q.37 तीन संख्याओं का योग 98 है। पहली और दूसरी संख्या का अनुपात 2:3 है तथा दूसरी और तीसरी संख्या का अनुपात 5:8 है। दूसरी संख्या ज्ञात कीजिए।

- Ans
- 1. 34
 - 2. 30
 - 3. 12
 - 4. 24

Question ID : 59445919451
Status : Answered
Chosen Option : 2

Q.38 यदि विक्रय मूल्य 18700 रुपये है, हानि 15% है, तो 15% लाभ कमाने के लिए विक्रय मूल्य कितना होना चाहिए?

- Ans
- 1. 25,800 रुपये
 - 2. 25,300 रुपये
 - 3. 25,900 रुपये
 - 4. 25,500 रुपये

Question ID : 59445919458
Status : Not Answered
Chosen Option : --

Q.39 15, 25, 40 और 75 से विभाजित होने वाली 4 अंकों की सबसे बड़ी संख्या है:

- Ans
- 1. 8500
 - 2. 9999
 - 3. 9400
 - 4. 9600

Question ID : 59445919443
Status : Answered
Chosen Option : 4

Q.40 अतुल एक सड़क को 16 दिन में बनाता है। सचिन उसी सड़क को 12 दिन में बनाता है। दोनों मिलकर रमन की सहायता करते हैं और कार्य को केवल 4 दिन में पूरा कर देते हैं। रमन को अकेले कार्य पूरा करने में कितना समय लगेगा?

- Ans
- 1. $17/3$ दिन
 - 2. $48/5$ दिन
 - 3. 12 दिन
 - 4. $43/5$ दिन

Question ID : 59445919469
Status : Answered
Chosen Option : 2

Q.1 Choose the correct synonym of the given word.

Mystify

- Ans
- 1. Illumine
 - 2. Respect
 - 3. Enlighten
 - 4. Perplex

Question ID : 59445919490
Status : Not Answered
Chosen Option : --

Q.2 Read the following sentence and identify which part of the sentence has an error.

The hay stacks / in the farm / caught the fire / yesterday morning

- Ans
- 1. caught the fire
 - 2. in the farm
 - 3. The hay stacks
 - 4. yesterday morning

Question ID : 59445919475
Status : Answered
Chosen Option : 3

Q.3 Which of the following words is misspelt?

- Ans
- 1. Denude
 - 2. Eloquent
 - 3. Conciety
 - 4. Obligation

Question ID : 59445919499
Status : Answered
Chosen Option : 4

Q.4 Read the following sentence and identify which part of the sentence has an error.

Labouring with a / false sense of / security, he / insulted his employer

- Ans
- 1. Labouring with a
 - 2. security, he
 - 3. insulted his employer
 - 4. false sense of

Question ID : 59445919472
Status : Not Answered
Chosen Option : --

Q.5 Choose the correct antonym of the given word.

Submit

- Ans
- 1. Flimsy
 - 2. Resist
 - 3. Comply
 - 4. Cheap

Question ID : 59445919494
Status : Answered
Chosen Option : 2

Q.6 Choose the correct antonym of the given word.

Sterile

- Ans
- 1. Crush
 - 2. Fruitful
 - 3. Barren
 - 4. Rigid

Question ID : 59445919493
Status : Not Answered
Chosen Option : --

Q.7 Choose the correct synonym of the given word.

Lustre

- Ans
- 1. Abject
 - 2. Sheen
 - 3. Dim
 - 4. Decay

Question ID : 59445919492
Status : Not Answered
Chosen Option : --

Q.8 Select the most appropriate option to substitute the given group of words.

The ineffaceable stain could not be removed from the boy's trousers

- Ans
- 1. Indelible
 - 2. Proxy
 - 3. Distinct
 - 4. Flagrant

Question ID : 59445919485
Status : Answered
Chosen Option : 1

Q.9 Which of the following words is misspelt?

- Ans 1. Transgresion
 2. Cowardly
 3. Applause
 4. Commendation

Question ID : 59445919502
 Status : Answered
 Chosen Option : 2

Q.10 Which of the following words is misspelt?

- Ans 1. False
 2. Propitious
 3. Auspecious
 4. Exuberant

Question ID : 59445919503
 Status : Not Answered
 Chosen Option : --

Q.11 Select the most appropriate option to substitute the given group of words.

Where knitted-wears are manufactured

- Ans 1. Treasury
 2. Distillery
 3. Apiary
 4. Hosiery

Question ID : 59445919484
 Status : Not Answered
 Chosen Option : --

Q.12 Select the most appropriate option to substitute the given group of words.

Storage place of grains

- Ans 1. Granary
 2. Kiln
 3. Confectionary
 4. Mint

Question ID : 59445919483
 Status : Not Answered
 Chosen Option : --

Q.13 Which of the following words is misspelt?

- Ans
- 1. Apprise
 - 2. Acheive
 - 3. Hostile
 - 4. Adequate

Question ID : 59445919504
Status : Answered
Chosen Option : 1

Q.14 Complete the following sentences with the most suitable option.

My friend is angry ____ me

- Ans
- 1. On
 - 2. Over
 - 3. Upon
 - 4. With

Question ID : 59445919478
Status : Answered
Chosen Option : 1

Q.15 Choose the option that is closest in meaning to the underlined idiom/phrase in each of the following sentences.

Alpha and Omega

- Ans
- 1. Doesn't bear
 - 2. Nothing in hand
 - 3. Alphabet
 - 4. The beginning and the end

Question ID : 59445919506
Status : Answered
Chosen Option : 4

Q.16 Select the most appropriate option to substitute the given group of words.

Belonging to the sea

- Ans
- 1. Supersonic
 - 2. Oriental
 - 3. Solar
 - 4. Marine

Question ID : 59445919486
Status : Answered
Chosen Option : 4

Q.17 Choose the correct antonym of the given word.

Reclaim

- Ans
- 1. Recede
 - 2. Penalty
 - 3. Amend
 - 4. Spoil

Question ID : 59445919497
Status : Answered
Chosen Option : 1

Q.18 Complete the following sentences with the most suitable option.

Adorned ___ jewels, the woman looked very beautiful

- Ans
- 1. For
 - 2. By
 - 3. With
 - 4. over

Question ID : 59445919482
Status : Answered
Chosen Option : 3

Q.19 Which of the following words is misspelt?

- Ans
- 1. Dissuade
 - 2. Persude
 - 3. Blame
 - 4. Opposite

Question ID : 59445919498
Status : Answered
Chosen Option : 1

Q.20 Complete the following sentences with the most suitable option.

While I was walking ___ the road, my bag fell down

- Ans
- 1. With
 - 2. In
 - 3. Along
 - 4. Over

Question ID : 59445919481
Status : Answered
Chosen Option : 4

Q.21 Choose the correct synonym of the given word.

Obtuse

- Ans 1. Plain
 2. Aggressive
 3. Lowly
 4. Exalted

Question ID : 59445919491
Status : Not Answered
Chosen Option : --

Q.22 Read the following sentence and identify which part of the sentence has an error.

You can now / cross Pacific ocean / in a jet aircraft / In a few hours

- Ans 1. cross Pacific ocean
 2. in a few hours
 3. in a jet aircraft
 4. You can now

Question ID : 59445919476
Status : Answered
Chosen Option : 2

Q.23 Choose the correct antonym of the given word.

Rejoice

- Ans 1. Bewail
 2. Delight
 3. Praise
 4. Advance

Question ID : 59445919496
Status : Not Answered
Chosen Option : --

Q.24 Read the following sentence and identify which part of the sentence has an error.

Many patriots resigned / from lucrative government posts / to join Gandhiji's / non co-operation movement

- Ans 1. from lucrative government posts
 2. Many patriots resigned
 3. non co-operation movement
 4. to join Gandhiji's

Question ID : 59445919474
Status : Answered
Chosen Option : 2

Q.25 Choose the correct synonym of the given word.

Marvelous

- Ans 1. Astonishing
 2. Melodious
 3. Harmless
 4. Common

Question ID : 59445919489
Status : Answered
Chosen Option : 3

Q.26 Complete the following sentences with the most suitable option.

It is impossible _____ me to hand in our papers

- Ans 1. Far
 2. For
 3. By
 4. To

Question ID : 59445919477
Status : Answered
Chosen Option : 2

Q.27 Select the most appropriate option to substitute the given group of words.

Place where stores of wealth are kept

- Ans 1. Treasury
 2. Pharmacy
 3. Hatchery
 4. Wardrobe

Question ID : 59445919487
Status : Answered
Chosen Option : 2

Q.28 Complete the following sentences with the most suitable option.

Mohit applied _____ the officer for a scholarship

- Ans 1. On
 2. To
 3. For
 4. With

Question ID : 59445919479
Status : Answered
Chosen Option : 2

Q.29 Which of the following words is misspelt?

- Ans
- 1. Permit
 - 2. Exaltation
 - 3. Extravagent
 - 4. Frustrate

Question ID : 59445919500
Status : Answered
Chosen Option : 4

Q.30 Read the following sentence and identify which part of the sentence has an error.

I would be prepared/ to submit the congress / any plan that would / encourage national thrift

- Ans
- 1. I would be prepared
 - 2. any plan that would
 - 3. encourage national thrift
 - 4. to submit the congress

Question ID : 59445919473
Status : Not Answered
Chosen Option : --

Q.31 Choose the option that is closest in meaning to the underlined idiom/phrase in each of the following sentences.

To add insult to injury

- Ans
- 1. To agree with
 - 2. Injure badly
 - 3. To give way
 - 4. To make things worse

Question ID : 59445919505
Status : Answered
Chosen Option : 4

Q.32 Choose the correct synonym of the given word.

Mercenary

- Ans
- 1. Venal
 - 2. Voluntary
 - 3. Honourable
 - 4. Ordinary

Question ID : 59445919488
Status : Not Answered
Chosen Option : --

Q.33 Choose the correct antonym of the given word.

Temerity

- Ans
- 1. Rashness
 - 2. Fatal
 - 3. Timidity
 - 4. Sober

Question ID : 59445919495
Status : Answered
Chosen Option : 2

Q.34 Complete the following sentences with the most suitable option.

Lead me not ____ temptation

- Ans
- 1. To
 - 2. With
 - 3. Into
 - 4. For

Question ID : 59445919480
Status : Answered
Chosen Option : 1

Q.35 Which of the following words is misspelt?

- Ans
- 1. Avail
 - 2. Benavolent
 - 3. Malevolent
 - 4. Humane

Question ID : 59445919501
Status : Answered
Chosen Option : 4

Comprehension:

Read the following Passages and answer the question.

Today I Rabindranath Tagore complete eighty years of my life .As I look back on the vast stretch of years that lie behind me and see in clear perspective the history of my early development, I am struck by the change that has taken place both in my own attitude and in the psychology of my countrymen – a change that carries within it a cause of profound tragedy.

Our direct contact with the larger world of men was linked up with the contemporary history of the English people whom we came to know in those earlier days. It was mainly through their mighty literature that we formed our ideas with regard to these newcomers to our Indian shores. In those days the type of learning that was served out to us was neither plentiful nor diverse, nor was the spirit of scientific enquiry very much in evidence. Thus their scope being strictly limited, the educated of those days had recourse to English language and literature.

Their days and nights were eloquent with the stately declamations of Burke, with Macaulay's long-rolling sentences; discussions centered upon Shakespeare's drama and Byron's poetry and above all upon the large-hearted liberalism of the nineteenth-century English politics.

At the time though tentative attempts were being made to gain our national independence, at heart we had not lost faith in the generosity of the English race. This belief was so firmly rooted in the sentiments of our leaders as to lead them to hope that the victor would of his own grace pave the path of freedom for the vanquished. This belief was based upon the fact that England at the time provided a shelter to all those who had to flee from persecution in their own country. Political martyrs who had suffered for the honour of their people were accorded unreserved welcome at the hands of the English.

I was impressed by this evidence of liberal humanity in the character of the English and thus I was led to set them on the pedestal of my highest respect. This generosity in their national character had not yet been vitiated by imperialist pride. About this time, as a boy in England, I had the opportunity of listening to the speeches of John Bright, both in and outside Parliament. The large-hearted, radical liberalism of those speeches, overflowing all narrow national bounds, had made so deep an impression on my mind that something of it lingers even today, even in these days of graceless disillusionment.

SubQuestion No : 36

Q.36 Tagore was listening to _____ speeches, as a boy.

- Ans
- 1. John Bright's
 - 2. Shakespeare's
 - 3. Macaulay's
 - 4. Byron's

Question ID : 59445919512

Status : Not Answered

Chosen Option : --

Comprehension:

Read the following Passages and answer the question.

Today I Rabindranath Tagore complete eighty years of my life .As I look back on the vast stretch of years that lie behind me and see in clear perspective the history of my early development, I am struck by the change that has taken place both in my own attitude and in the psychology of my countrymen – a change that carries within it a cause of profound tragedy.

Our direct contact with the larger world of men was linked up with the contemporary history of the English people whom we came to know in those earlier days. It was mainly through their mighty literature that we formed our ideas with regard to these newcomers to our Indian shores. In those days the type of learning that was served out to us was neither plentiful nor diverse, nor was the spirit of scientific enquiry very much in evidence. Thus their scope being strictly limited, the educated of those days had recourse to English language and literature.

Their days and nights were eloquent with the stately declamations of Burke, with Macaulay's long-rolling sentences; discussions centered upon Shakespeare's drama and Byron's poetry and above all upon the large-hearted liberalism of the nineteenth-century English politics.

At the time though tentative attempts were being made to gain our national independence, at heart we had not lost faith in the generosity of the English race. This belief was so firmly rooted in the sentiments of our leaders as to lead them to hope that the victor would of his own grace pave the path of freedom for the vanquished. This belief was based upon the fact that England at the time provided a shelter to all those who had to flee from persecution in their own country. Political martyrs who had suffered for the honour of their people were accorded unreserved welcome at the hands of the English.

I was impressed by this evidence of liberal humanity in the character of the English and thus I was led to set them on the pedestal of my highest respect. This generosity in their national character had not yet been vitiated by imperialist pride. About this time, as a boy in England, I had the opportunity of listening to the speeches of John Bright, both in and outside Parliament. The large-hearted, radical liberalism of those speeches, overflowing all narrow national bounds, had made so deep an impression on my mind that something of it lingers even today, even in these days of graceless disillusionment.

SubQuestion No : 37

Q.37 Which helped the Indians to conceive of a notion of the Englishmen?

- Ans
- 1. Their advanced weaponry
 - 2. The literature
 - 3. Their orders
 - 4. Their administration

Question ID : 59445919509

Status : Answered

Chosen Option : 2

Comprehension:

Read the following Passages and answer the question.

Today I Rabindranath Tagore complete eighty years of my life .As I look back on the vast stretch of years that lie behind me and see in clear perspective the history of my early development, I am struck by the change that has taken place both in my own attitude and in the psychology of my countrymen – a change that carries within it a cause of profound tragedy.

Our direct contact with the larger world of men was linked up with the contemporary history of the English people whom we came to know in those earlier days. It was mainly through their mighty literature that we formed our ideas with regard to these newcomers to our Indian shores. In those days the type of learning that was served out to us was neither plentiful nor diverse, nor was the spirit of scientific enquiry very much in evidence. Thus their scope being strictly limited, the educated of those days had recourse to English language and literature.

Their days and nights were eloquent with the stately declamations of Burke, with Macaulay's long-rolling sentences; discussions centered upon Shakespeare's drama and Byron's poetry and above all upon the large-hearted liberalism of the nineteenth-century English politics.

At the time though tentative attempts were being made to gain our national independence, at heart we had not lost faith in the generosity of the English race. This belief was so firmly rooted in the sentiments of our leaders as to lead them to hope that the victor would of his own grace pave the path of freedom for the vanquished. This belief was based upon the fact that England at the time provided a shelter to all those who had to flee from persecution in their own country. Political martyrs who had suffered for the honour of their people were accorded unreserved welcome at the hands of the English.

I was impressed by this evidence of liberal humanity in the character of the English and thus I was led to set them on the pedestal of my highest respect. This generosity in their national character had not yet been vitiated by imperialist pride. About this time, as a boy in England, I had the opportunity of listening to the speeches of John Bright, both in and outside Parliament. The large-hearted, radical liberalism of those speeches, overflowing all narrow national bounds, had made so deep an impression on my mind that something of it lingers even today, even in these days of graceless disillusionment.

SubQuestion No : 38

Q.38 Give an antonym for 'victorious' from the third paragraph:

- Ans
- 1. Belief
 - 2. Vanquished
 - 3. Persecution
 - 4. Victor

Question ID : 59445919511

Status : Answered

Chosen Option : 1

Comprehension:

Read the following Passages and answer the question.

Today I Rabindranath Tagore complete eighty years of my life .As I look back on the vast stretch of years that lie behind me and see in clear perspective the history of my early development, I am struck by the change that has taken place both in my own attitude and in the psychology of my countrymen – a change that carries within it a cause of profound tragedy.

Our direct contact with the larger world of men was linked up with the contemporary history of the English people whom we came to know in those earlier days. It was mainly through their mighty literature that we formed our ideas with regard to these newcomers to our Indian shores. In those days the type of learning that was served out to us was neither plentiful nor diverse, nor was the spirit of scientific enquiry very much in evidence. Thus their scope being strictly limited, the educated of those days had recourse to English language and literature.

Their days and nights were eloquent with the stately declamations of Burke, with Macaulay's long-rolling sentences; discussions centered upon Shakespeare's drama and Byron's poetry and above all upon the large-hearted liberalism of the nineteenth-century English politics.

At the time though tentative attempts were being made to gain our national independence, at heart we had not lost faith in the generosity of the English race. This belief was so firmly rooted in the sentiments of our leaders as to lead them to hope that the victor would of his own grace pave the path of freedom for the vanquished. This belief was based upon the fact that England at the time provided a shelter to all those who had to flee from persecution in their own country. Political martyrs who had suffered for the honour of their people were accorded unreserved welcome at the hands of the English.

I was impressed by this evidence of liberal humanity in the character of the English and thus I was led to set them on the pedestal of my highest respect. This generosity in their national character had not yet been vitiated by imperialist pride. About this time, as a boy in England, I had the opportunity of listening to the speeches of John Bright, both in and outside Parliament. The large-hearted, radical liberalism of those speeches, overflowing all narrow national bounds, had made so deep an impression on my mind that something of it lingers even today, even in these days of graceless disillusionment.

SubQuestion No : 39

Q.39 Who were benefitted by English literature?

Ans

- 1. The educated Indians
- 2. All the Indians
- 3. Only writers such as Rabindranath Tagore
- 4. All the national leaders

Question ID : 59445919510

Status : Not Answered

Chosen Option : --

Comprehension:

Read the following Passages and answer the question.

Today I Rabindranath Tagore complete eighty years of my life .As I look back on the vast stretch of years that lie behind me and see in clear perspective the history of my early development, I am struck by the change that has taken place both in my own attitude and in the psychology of my countrymen – a change that carries within it a cause of profound tragedy.

Our direct contact with the larger world of men was linked up with the contemporary history of the English people whom we came to know in those earlier days. It was mainly through their mighty literature that we formed our ideas with regard to these newcomers to our Indian shores. In those days the type of learning that was served out to us was neither plentiful nor diverse, nor was the spirit of scientific enquiry very much in evidence. Thus their scope being strictly limited, the educated of those days had recourse to English language and literature.

Their days and nights were eloquent with the stately declamations of Burke, with Macaulay's long-rolling sentences; discussions centered upon Shakespeare's drama and Byron's poetry and above all upon the large-hearted liberalism of the nineteenth-century English politics.

At the time though tentative attempts were being made to gain our national independence, at heart we had not lost faith in the generosity of the English race. This belief was so firmly rooted in the sentiments of our leaders as to lead them to hope that the victor would of his own grace pave the path of freedom for the vanquished. This belief was based upon the fact that England at the time provided a shelter to all those who had to flee from persecution in their own country. Political martyrs who had suffered for the honour of their people were accorded unreserved welcome at the hands of the English.

I was impressed by this evidence of liberal humanity in the character of the English and thus I was led to set them on the pedestal of my highest respect. This generosity in their national character had not yet been vitiated by imperialist pride. About this time, as a boy in England, I had the opportunity of listening to the speeches of John Bright, both in and outside Parliament. The large-hearted, radical liberalism of those speeches, overflowing all narrow national bounds, had made so deep an impression on my mind that something of it lingers even today, even in these days of graceless disillusionment.

SubQuestion No : 40

Q.40 From the first paragraph, give a synonym for 'deep':

- Ans**
- 1. Profound
 - 2. Perspective
 - 3. Psychology
 - 4. Tragedy

Question ID : 59445919508

Status : Not Answered

Chosen Option : --

Section : Hindi Language and Comprehension

Q.1 मेख मारना मुहावरे का अर्थ क्या है?

- Ans**
- 1. आगे जाना
 - 2. भांजी मारना
 - 3. पीछा करना
 - 4. दौड़ लगाना

Question ID : 59445919544

Status : Answered

Chosen Option : 2

Q.2 तन-मन-धन में कौन सा समास है?

- Ans
- 1. कर्मधारय समास
 - 2. तत्पुरुष समास
 - 3. बहुब्रीहि समास
 - 4. द्वन्द्व समास

Question ID : 59445919519
Status : Answered
Chosen Option : 1

Q.3 जोंक किस श्रेणी में आता है?

- Ans
- 1. नपुंसक लिंग
 - 2. स्त्रीलिंग
 - 3. पुल्लिंग
 - 4. उभयलिंग

Question ID : 59445919535
Status : Not Answered
Chosen Option : --

Q.4 लिंग का शाब्दिक अर्थ _____ है।

- Ans
- 1. क्रिया
 - 2. कारक
 - 3. कर्म
 - 4. निशान

Question ID : 59445919542
Status : Answered
Chosen Option : 1

Q.5 व्यंजन सन्धि कौन सी है?

- Ans
- 1. मनोनयन
 - 2. भावुक
 - 3. सज्जन
 - 4. भवन

Question ID : 59445919514
Status : Answered
Chosen Option : 1

Q.6 समास के कितने भेद होते हैं?

- Ans
- 1. एक
 - 2. दो
 - 3. चार
 - 4. छः

Question ID : 59445919516
Status : Answered
Chosen Option : 4

Q.7 लिंग कितने प्रकार के होते हैं?

- Ans
- 1. सात
 - 2. तीन
 - 3. पाँच
 - 4. चार

Question ID : 59445919534
Status : Not Answered
Chosen Option : --

Q.8 बरकरार शब्द का विलोम है:

- Ans
- 1. विरोधी
 - 2. दुराशा
 - 3. अनार्य
 - 4. बर्खास्त

Question ID : 59445919533
Status : Answered
Chosen Option : 4

Q.9 अनार्य शब्द _____ कहलाता है।

- Ans
- 1. तत्सम
 - 2. समध्वनि
 - 3. तद्धव
 - 4. अर्द्धतत्सम

Question ID : 59445919524
Status : Not Answered
Chosen Option : --

Q.10 उरला का विलोम क्या है?

- Ans
- 1. निष्प्राण
 - 2. भीरु
 - 3. परला
 - 4. खल

Question ID : 59445919528
Status : Answered
Chosen Option : 3

Q.11 जो शब्दांश शब्दों के आदि में जुड़कर उनके अर्थ में कुछ विशेषता लाते हैं, वे _____ कहलाते हैं।

- Ans
- 1. सर्वनाम
 - 2. संज्ञा
 - 3. उपसर्ग
 - 4. सन्धि विच्छेद

Question ID : 59445919520
Status : Answered
Chosen Option : 4

Q.12 फूहड़ का विलोम क्या है?

- Ans
- 1. मधु
 - 2. बेकार
 - 3. भव्य
 - 4. अकथ्य

Question ID : 59445919530
Status : Answered
Chosen Option : 3

Q.13 करो या मरो में किस वाक्य का प्रयोग किया गया है?

- Ans
- 1. सरल
 - 2. संयुक्त
 - 3. एक वाक्य
 - 4. मिश्र

Question ID : 59445919541
Status : Answered
Chosen Option : 2

Q.14 अधिमूल्यन का विलोम क्या है?

- Ans
- 1. नीच
 - 2. अवमूल्यन
 - 3. अकंपित
 - 4. अनुपयुक्त

Question ID : 59445919527
Status : Answered
Chosen Option : 2

Q.15 आसन्न भूत का वाक्य कौन है?

- Ans
- 1. तुमने गाया होगा।
 - 2. मैंने आम खाया है।
 - 3. सुरेश गीत गा रहा था।
 - 4. वह आया था।

Question ID : 59445919540
Status : Not Answered
Chosen Option : --

Q.16 अंगूठे पर मारना मुहावरे का अर्थ क्या है?

- Ans
- 1. सेवा करना
 - 2. परवाह न करना
 - 3. परवरिश करना
 - 4. धोखा देना

Question ID : 59445919545
Status : Answered
Chosen Option : 4

Q.17 श्रेष्ठता शब्द का विलोम है:

- Ans
- 1. गौण
 - 2. अवर
 - 3. निंदक
 - 4. अधमता

Question ID : 59445919532
Status : Not Answered
Chosen Option : --

Q.18 महोत्सव में कौन सी सन्धि है?

- Ans
- 1. दीर्घ स्वर सन्धि
 - 2. यण् स्वर सन्धि
 - 3. वृद्धि स्वर सन्धि
 - 4. गुण स्वर सन्धि

Question ID : 59445919513
Status : Not Answered
Chosen Option : --

Q.19 तद्भव शब्द का चयन कीजिए:

- Ans
- 1. अलोना
 - 2. एकल
 - 3. अमृत
 - 4. अद्य

Question ID : 59445919522
Status : Answered
Chosen Option : 3

Q.20 वह पढ़ता होगा। किस काल का वाक्य है?

- Ans
- 1. सामान्य वर्तमान
 - 2. पूर्व वर्तमान
 - 3. तात्कालिक वर्तमान
 - 4. संदिग्ध वर्तमान

Question ID : 59445919539
Status : Answered
Chosen Option : 4

Q.21 चेतन का विलोम क्या है?

- Ans
- 1. स्थावर
 - 2. लचर
 - 3. अगूढ़
 - 4. जड़

Question ID : 59445919531
Status : Answered
Chosen Option : 1

Q.22 निम्नलिखित में कौन सा शब्द तद्भव है?

- Ans
- 1. इयत
 - 2. इस्टिका
 - 3. एतस्य
 - 4. इस

Question ID : 59445919523
Status : Not Answered
Chosen Option : --

Q.23 निडर में कौन सा समास है?

- Ans
- 1. तत्पुरुष
 - 2. बहुब्रीह समास
 - 3. अव्ययीभाव
 - 4. द्वंद्व समास

Question ID : 59445919515
Status : Answered
Chosen Option : 3

Q.24 तुम्हारी जीत होकर रही, शाबाश!

- Ans
- 1. योजक चिन्ह
 - 2. विस्मयादिबोधक चिन्ह
 - 3. प्रश्नवाचक चिन्ह
 - 4. उद्धरण चिन्ह

Question ID : 59445919543
Status : Answered
Chosen Option : 2

Q.25 संयुक्त वाक्य कौन सा है?

- Ans
- 1. सूखा पड़ गया है, इसलिए इस बार फसल कम है।
 - 2. उसके सीटी बजाने पर खेल रुक गया।
 - 3. आवश्यक कार्य में व्यस्त रहने के कारण मुझे अवकाश नहीं मिला।
 - 4. कुलपति ने उसे अनुशासन भंग करने पर दंडित किया।

Question ID : 59445919538
Status : Answered
Chosen Option : 2

Q.26 संज्ञा, सर्वनाम, विशेषण और क्रिया के जिस रूप से संख्या का बोध हो, वह _____ कहलाता है।

- Ans
- 1. मुहावरा
 - 2. समास
 - 3. कारक
 - 4. वचन

Question ID : 59445919537
Status : Answered
Chosen Option : 3

Q.27 बहुव्रीहि समास का उदाहरण कौन सा है?

- Ans
- 1. दानधान
 - 2. बड़बोला
 - 3. सुख-दुःख
 - 4. मदमाता

Question ID : 59445919518
Status : Answered
Chosen Option : 4

Q.28 परलोक गमन में कौन सा समास है?

- Ans
- 1. सम्प्रदान तत्पुरुष
 - 2. अधिकरण
 - 3. अपादान तत्पुरुष
 - 4. कर्म तत्पुरुष

Question ID : 59445919517
Status : Answered
Chosen Option : 4

Q.29 स्त्रीलिंग शब्द कौन सा है?

- Ans
- 1. मही
 - 2. दही
 - 3. पानी
 - 4. उदासी

Question ID : 59445919536
Status : Answered
Chosen Option : 4

Q.30 कृत्रिम का विलोम क्या है?

- Ans 1. प्रकृत
 2. उत्तम
 3. अधिगम्य
 4. अनंत

Question ID : 59445919529
Status : Answered
Chosen Option : 1

Q.31 रंग काछना मुहावरे का अर्थ क्या है?

- Ans 1. कोई नई चाल
 2. प्रकाशित करना
 3. गायब हो जाना
 4. खोज करना

Question ID : 59445919547
Status : Not Answered
Chosen Option : --

Q.32 तत्सम शब्द कौन सा है?

- Ans 1. रितु
 2. उपालम्भ
 3. अहेर
 4. ओठ

Question ID : 59445919521
Status : Not Answered
Chosen Option : --

Q.33 मुकाम देना मुहावरे का अर्थ क्या है?

- Ans 1. विदेश जाना
 2. मातम पुरसी करने जाना
 3. यात्रा करना
 4. मदद करना

Question ID : 59445919546
Status : Answered
Chosen Option : 2

Q.34 हिम का पर्यायवाची क्या है?

- Ans
- 1. मित्र
 - 2. ताजा मक्खन
 - 3. सेना
 - 4. सेली

Question ID : 59445919525

Status : Not Answered

Chosen Option : --

Q.35 शुभ का अर्थ क्या है?

- Ans
- 1. शेल
 - 2. बंदाक
 - 3. अग्नि
 - 4. बकरा

Question ID : 59445919526

Status : Not Answered

Chosen Option : --

Comprehension:

निम्नलिखित गद्यांश पढ़ें और प्रश्न का उत्तर दें:

जो समझता है कि वह दूसरों का उपकार कर रहा है वह अबोध है, जो समझता है कि दूसरे उसका अपकार कर रहे हैं वह भी बुद्धिहीन है। कौन किसका उपकार करता है, कौन किसका अपकार कर रहा है? मनुष्य जी रहा है, केवल जी रहा है, अपनी इच्छा से नहीं, इतिहास विधाता की योजना के अनुसार। किसी की उससे सुख मिल जाय, बहुत अच्छी बात है, नहीं मिल सका, कोई बात नहीं, परंतु उसे अभिमान नहीं होना चाहिए। सुख पहुँचाने का अभिमान यदि गलत है, तो दुख पहुँचाने का अभिमान तो नितांत गलत है।

दुख और सुख तो मन के विकल्प हैं। सुखी वह है जिसका मन वश में है, दुखी वह है जिसका मन परवश है। परवश होने का अर्थ है खुशामद करना, दाँत निपोरना, चाटुकारिता, हॉ-हजूरी। जिसका मन अपने वश में नहीं है वही दूसरे के मन का छंदावर्तन करता है, अपने को छिपाने के लिए मिथ्याआडंबर रचता है, दूसरों को फँसाने के लिए जाल बिछाता है। कुटज इन सब मिथ्याचारों से मुक्त है। वह वशी है। वह वैरागी है। राजा जनक की तरह संसार में रहकर, संपूर्ण भोगों को भोगकर भी उनसे मुक्त है। जनक की ही भाँति वह घोषणा करता है। "मैं स्वार्थ के लिए अपने मन को सदा दूसरे के मन में घुसाता नहीं फिरता, इसलिए मैं मन को जीत सका हूँ उसे वश में कर सका हूँ।"

SubQuestion No : 36

Q.36 मन के विकल्प क्या हैं?

- Ans
- 1. वसुधैव कुटुम्बकम्
 - 2. प्रेम-सद्भाव
 - 3. दुख और सुख
 - 4. आपसी भाईचारा

Question ID : 59445919551

Status : Answered

Chosen Option : 3

Comprehension:

निम्नलिखित गद्यांश पढ़ें और प्रश्न का उत्तर दें:

जो समझता है कि वह दूसरों का उपकार कर रहा है वह अबोध है, जो समझता है कि दूसरे उसका अपकार कर रहे हैं वह भी बुद्धिहीन है। कौन किसका उपकार करता है, कौन किसका अपकार कर रहा है? मनुष्य जी रहा है, केवल जी रहा है, अपनी इच्छा से नहीं, इतिहास विधाता की योजना के अनुसार। किसी की उससे सुख मिल जाय, बहुत अच्छी बात है, नहीं मिल सका, कोई बात नहीं, परंतु उसे अभिमान नहीं होना चाहिए। सुख पहुँचाने का अभिमान यदि गलत है, तो दुख पहुँचाने का अभिमान तो नितांत गलत है।

दुख और सुख तो मन के विकल्प हैं। सुखी वह है जिसका मन वश में है, दुखी वह है जिसका मन परवश है। परवश होने का अर्थ है खुशामद करना, दाँत निपोरना, चाटुकारिता, हॉ-हजूरी। जिसका मन अपने वश में नहीं है वही दूसरे के मन का छंदावर्तन करता है, अपने को छिपाने के लिए मिथ्याआडंबर रचता है, दूसरों को फँसाने के लिए जाल बिछाता है। कुटज इन सब मिथ्याचारों से मुक्त है। वह वशी है। वह वैरागी है। राजा जनक की तरह संसार में रहकर, संपूर्ण भोगों को भोगकर भी उनसे मुक्त है। जनक की ही भाँति वह घोषणा करता है। "मैं स्वार्थ के लिए अपने मन को सदा दूसरे के मन में घुसाता नहीं फिरता, इसलिए मैं मन को जीत सका हूँ उसे वश में कर सका हूँ।"

SubQuestion No : 37

Q.37 प्रस्तुत अपठित गद्यांश में किस विधा का प्रयोग किया गया है?

- Ans
- 1. डायरी
 - 2. रिपोर्टाज
 - 3. संस्मरण
 - 4. निबन्ध

Question ID : 59445919553

Status : Answered

Chosen Option : 4

Comprehension:

निम्नलिखित गद्यांश पढ़ें और प्रश्न का उत्तर दें:

जो समझता है कि वह दूसरों का उपकार कर रहा है वह अबोध है, जो समझता है कि दूसरे उसका अपकार कर रहे हैं वह भी बुद्धिहीन है। कौन किसका उपकार करता है, कौन किसका अपकार कर रहा है? मनुष्य जी रहा है, केवल जी रहा है, अपनी इच्छा से नहीं, इतिहास विधाता की योजना के अनुसार। किसी की उससे सुख मिल जाय, बहुत अच्छी बात है, नहीं मिल सका, कोई बात नहीं, परंतु उसे अभिमान नहीं होना चाहिए। सुख पहुँचाने का अभिमान यदि गलत है, तो दुख पहुँचाने का अभिमान तो नितांत गलत है।

दुख और सुख तो मन के विकल्प हैं। सुखी वह है जिसका मन वश में है, दुखी वह है जिसका मन परवश है। परवश होने का अर्थ है खुशामद करना, दाँत निपोरना, चाटुकारिता, हॉ-हजूरी। जिसका मन अपने वश में नहीं है वही दूसरे के मन का छंदावर्तन करता है, अपने को छिपाने के लिए मिथ्याआडंबर रचता है, दूसरों को फँसाने के लिए जाल बिछाता है। कुटज इन सब मिथ्याचारों से मुक्त है। वह वशी है। वह वैरागी है। राजा जनक की तरह संसार में रहकर, संपूर्ण भोगों को भोगकर भी उनसे मुक्त है। जनक की ही भाँति वह घोषणा करता है। "मैं स्वार्थ के लिए अपने मन को सदा दूसरे के मन में घुसाता नहीं फिरता, इसलिए मैं मन को जीत सका हूँ उसे वश में कर सका हूँ।"

SubQuestion No : 38

Q.38 प्रस्तुत गद्यांश का शीर्षक क्या है?

- Ans
- 1. प्रेरणा
 - 2. कुटज
 - 3. जीवन
 - 4. प्रतिभा

Question ID : 59445919552

Status : Answered

Chosen Option : 3

Test

Prime

By Adda247

Previous Year Papers PDF

PRACTICE MORE, SCORE HIGHER!



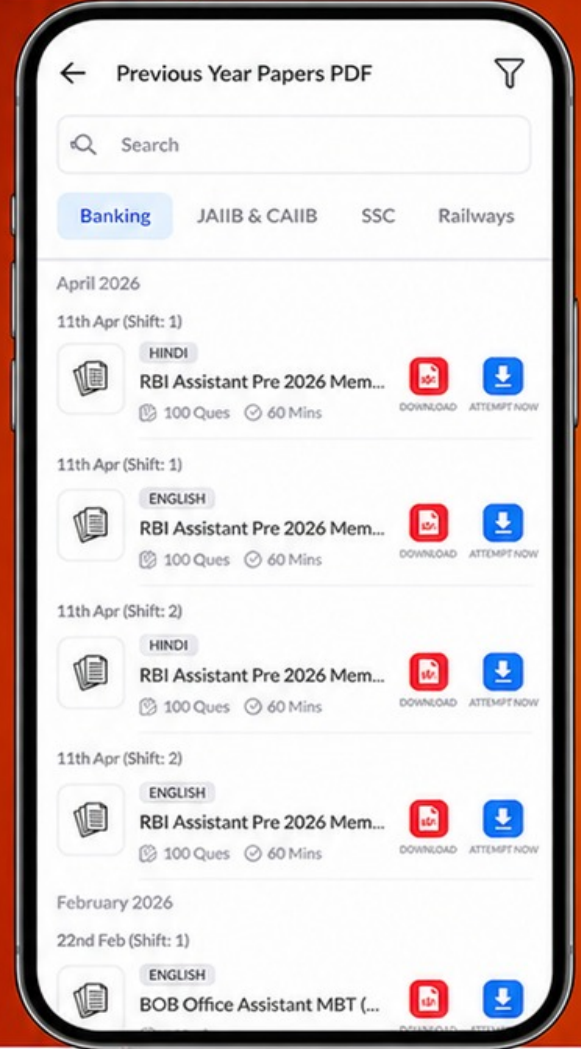
Free
25,000+
PDF's

High-Quality | Exam-Wise | Updated Regularly

ATTEMPT AS
MOCK



Turn PDFs into real exam experience.
Analyze. Improve. Succeed.



Topic-wise & Exam-wise PDFs



Download & Study Offline



Attempt as Mock & Track Score



Smart Analysis & Performance

AVAILABLE IN



Banking



SSC



Railway



Teaching



UGC



Agriculture



Nursing



Bihar



UP



Punjab



WB



Odisha



TN



AP & Telangana



Haryana



DOWNLOAD THE APP



Comprehension:

निम्नलिखित गद्यांश पढ़ें और प्रश्न का उत्तर दें:

जो समझता है कि वह दूसरों का उपकार कर रहा है वह अबोध है, जो समझता है कि दूसरे उसका अपकार कर रहे हैं वह भी बुद्धिहीन है। कौन किसका उपकार करता है, कौन किसका अपकार कर रहा है? मनुष्य जी रहा है, केवल जी रहा है, अपनी इच्छा से नहीं, इतिहास विधाता की योजना के अनुसार। किसी की उससे सुख मिल जाय, बहुत अच्छी बात है, नहीं मिल सका, कोई बात नहीं, परंतु उसे अभिमान नहीं होना चाहिए। सुख पहुँचाने का अभिमान यदि गलत है, तो दुख पहुँचाने का अभिमान तो नितांत गलत है।

दुख और सुख तो मन के विकल्प हैं। सुखी वह है जिसका मन वश में है, दुखी वह है जिसका मन परवश है। परवश होने का अर्थ है खुशामद करना, दाँत निपोरना, चाटुकारिता, हाँ-हजूरी। जिसका मन अपने वश में नहीं है वही दूसरे के मन का छंदावर्तन करता है, अपने को छिपाने के लिए मिथ्याआडंबर रचता है, दूसरों को फँसाने के लिए जाल बिछाता है। कुटज इन सब मिथ्याचारों से मुक्त है। वह वशी है। वह वैरागी है। राजा जनक की तरह संसार में रहकर, संपूर्ण भोगों को भोगकर भी उनसे मुक्त है। जनक की ही भाँति वह घोषणा करता है। "मैं स्वार्थ के लिए अपने मन को सदा दूसरे के मन में घुसाता नहीं फिरता, इसलिए मैं मन को जीत सका हूँ उसे वश में कर सका हूँ।"

SubQuestion No : 39

Q.39 मनुष्य किसकी इच्छा से जी रहा है?

- Ans
- 1. प्रकृति
 - 2. माता
 - 3. पिता
 - 4. इतिहास विधाता

Question ID : 59445919550

Status : Answered

Chosen Option : 4

Comprehension:

निम्नलिखित गद्यांश पढ़ें और प्रश्न का उत्तर दें:

जो समझता है कि वह दूसरों का उपकार कर रहा है वह अबोध है, जो समझता है कि दूसरे उसका अपकार कर रहे हैं वह भी बुद्धिहीन है। कौन किसका उपकार करता है, कौन किसका अपकार कर रहा है? मनुष्य जी रहा है, केवल जी रहा है, अपनी इच्छा से नहीं, इतिहास विधाता की योजना के अनुसार। किसी की उससे सुख मिल जाय, बहुत अच्छी बात है, नहीं मिल सका, कोई बात नहीं, परंतु उसे अभिमान नहीं होना चाहिए। सुख पहुँचाने का अभिमान यदि गलत है, तो दुख पहुँचाने का अभिमान तो नितांत गलत है।

दुख और सुख तो मन के विकल्प हैं। सुखी वह है जिसका मन वश में है, दुखी वह है जिसका मन परवश है। परवश होने का अर्थ है खुशामद करना, दाँत निपोरना, चाटुकारिता, हाँ-हजूरी। जिसका मन अपने वश में नहीं है वही दूसरे के मन का छंदावर्तन करता है, अपने को छिपाने के लिए मिथ्याआडंबर रचता है, दूसरों को फँसाने के लिए जाल बिछाता है। कुटज इन सब मिथ्याचारों से मुक्त है। वह वशी है। वह वैरागी है। राजा जनक की तरह संसार में रहकर, संपूर्ण भोगों को भोगकर भी उनसे मुक्त है। जनक की ही भाँति वह घोषणा करता है। "मैं स्वार्थ के लिए अपने मन को सदा दूसरे के मन में घुसाता नहीं फिरता, इसलिए मैं मन को जीत सका हूँ उसे वश में कर सका हूँ।"

SubQuestion No : 40

Q.40 जिसका मन अपने नियंत्रण में रहता है, वह _____ है।

- Ans
- 1. परेशान
 - 2. निराश
 - 3. सुखी
 - 4. दुखी

Question ID : 59445919549

Status : Answered

Chosen Option : 3