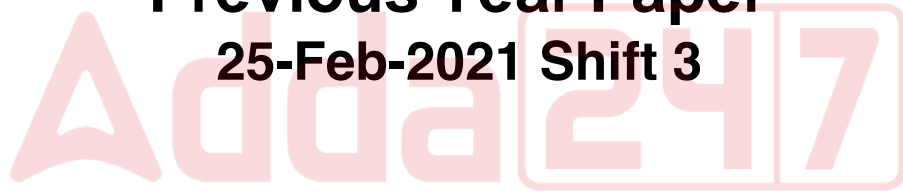


DSSSB Grade 4

**Previous Year Paper
25-Feb-2021 Shift 3**



Test
Prime

By Adda247

ALL EXAMS, ONE SUBSCRIPTION



Test. Analyze. Improve. Repeat.



Don't just *prepare*. *Perform*.

Test Prime — built only for mock tests.



1,50,000+
Mock Tests



25,000+
Previous Year Papers



800+
Exam Covered



500% Refund
on Selection



5 lakh+
Free Quizzes



Daily
Free PDFs



Job Alerts
Stay Updated

- Multilingual
- Detailed Solution
- Strong and Weak Areas



All India
Rankings

Compete with lakhs.
Rank. Improve. Repeat.



← Adda247 test prime

Rating ▾

Editors' choice

New



Adda247 Test Prime
Adda Education • Education
📌 Installed



DOWNLOAD THE APP



Forest Department



Participant ID	
Participant Name	
Test Center Name	
Test Date	15/03/2020
Test Time	9:00 AM - 11:00 AM
Subject	Wildlife Guard

Section : General Intelligence and Reasoning Ability

Q.1 * चिह्नों को बदलने और निम्नलिखित समीकरण को संतुलित करने के लिए गणितीय संकेतों के सही संयोजन का चयन करें।

$$(12 * 8 * 6) * 30 * 3$$

- Ans
1. $- \div X =$
2. $\div - X =$
3. $X - \div =$
4. $X \div - =$

Question ID : 59445919178

Status : Answered

Chosen Option : 3

Q.2 मुस्कुराना (स्माइलिंग)' हंसना (लाफिंग)' से उसी तरह संबंधित है, जैसे 'टहलना (वॉकिंग)', _____ से संबंधित है।

- Ans
1. रेंगना (क्रॉलिंग)
2. दौड़ना (रनिंग)
3. भटकना (वान्डरिंग)
4. टालना (स्टालिंग)

Question ID : 59445919156

Status : Answered

Chosen Option : 2

Q.3 दिए गए चार वर्ण-समूहों में तीन किसी तरह से समान हैं, और एक भिन्न (विषम) है। विषम का चयन करें।

- Ans
1. DFH
2. UWY
3. LNP
4. OQT

Question ID : 59445919154

Status : Answered

Chosen Option : 4

Q.4 उस विकल्प का चयन करें, जो तीसरे पद से उसी प्रकार संबंधित है, जिस प्रकार, दूसरा पद पहले पद से संबंधित है।

19: 29 :: 37:?

- Ans
- 1. 41
 - 2. 35
 - 3. 43
 - 4. 39

Question ID : 59445919167
Status : Not Answered
Chosen Option : --

Q.5 उस विकल्प का चयन करें, जो तीसरे पद से उसी प्रकार संबंधित है, जिस प्रकार, दूसरा पद पहले पद से संबंधित है।

SWN: VSS :: NTK : ?

- Ans
- 1. OPP
 - 2. QPP
 - 3. PQQ
 - 4. PPQ

Question ID : 59445919188
Status : Answered
Chosen Option : 2

Q.6 (=) चिह्न के दोनों तरफ के दोनों व्यंजकों के मान समान होंगे यदि दोनों तरफ या एक ही तरफ के दो पदों को प्रतिस्थापित किया जाए। प्रतिस्थापित किए जाने वाले सही पदों को ज्ञात करें।

$$6 - 8 \div 4 + 2 \times 3 = 8 \times 3 + 4 \div 5 - 7$$

- Ans
- 1. 6, 7
 - 2. 4, 5
 - 3. 5, 2
 - 4. 7, 5

Question ID : 59445919172
Status : Answered
Chosen Option : 3

Q.7 यदि दिए गए चिह्नों (साइन) और अंकों को एक दूसरे की जगह पर बदल दिया जाये, तो निम्न में से कौन-सा एक समीकरण सत्य (संतुलित) होगा?
दिए गए एक दूसरे की जगह पर बदलाव:
चिह्न: + और -
अंक: 4 और 6

- Ans
- 1. $66 - 46 + 73 = 38$
 - 2. $46 - 66 + 72 = 53$
 - 3. $46 - 64 + 75 = 35$
 - 4. $64 - 46 + 37 = 39$

Question ID : 59445919171
Status : Answered
Chosen Option : 3

Q.8 एक छायाचित्र में एक व्यक्ति की ओर इशारा करते हुए, प्रशांत कहता है, "उनके इकलौते भाई, मेरे बेटे के पिता के पिता हैं।" छायाचित्र वाले उस व्यक्ति से प्रशांत का क्या संबंध है?

- Ans
- 1. बेटा
 - 2. भतीजा
 - 3. पिता
 - 4. चाचा

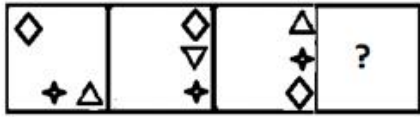
Question ID : 59445919162
Status : Answered
Chosen Option : 2

Q.9 एक निश्चित कोड भाषा में, 'Summers are hot' को 'tod din mul', 'Sun is bright in summers' को 'mado si fla pri tod' और 'I hate hot' को 'lopi din nro' के रूप में लिखा जाता है। इस कोड भाषा में 'Summers' और 'hot' के लिए किस कोड शब्दों का प्रयोग किया गया है?

- Ans
- 1. tod, din
 - 2. mul, tod
 - 3. din, mul
 - 4. tod, mul

Question ID : 59445919160
Status : Answered
Chosen Option : 1

Q.10 उस आकृति का चयन करें, जो निम्न आकृति श्रेणी में आगे आएगी।



Ans

✗ 1.



✗ 2.



✓ 3.



✗ 4.



Question ID : 59445919183

Status : Answered

Chosen Option : 3

Q.11 दिए गए शब्द के अक्षरों का उपयोग करके निम्नलिखित में से कौन सा शब्द नहीं बनाया जा सकता है। किसी भी अक्षर का प्रयोग केवल उतनी ही बार करना है जितनी बार वह अक्षर दिए गए शब्द में प्रयुक्त किया गया है।

CHILDREN

Ans ✗ 1. DRENCH

✗ 2. LICHEN

✓ 3. HIDDEN

✗ 4. ENRICH

Question ID : 59445919152

Status : Answered

Chosen Option : 3

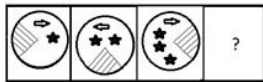
Q.12 दिए गए समीकरण को संतुलित (सही) करने के लिए, दी गई संख्याओं में किन दो को एक दूसरे की जगह पर बदलना होगा?

$$6 \times 5 \div 2 + 4 - 11 = 8$$

- Ans
- 1. 5 और 6
 - 2. 4 और 5
 - 3. 2 और 6
 - 4. 4 और 2

Question ID : 59445919170
Status : Answered
Chosen Option : 1

Q.13 उस आकृति का चयन करें, जो निम्न श्रेणी में प्रश्नवाचक चिन्ह (?) के स्थान पर हो सकती है।



Ans

- 1.
- 2.
- 3.
- 4.

Question ID : 59445919184
Status : Answered
Chosen Option : 2

Q.14 उस विकल्प का चयन करें, जो तीसरे पद से उसी प्रकार संबंधित है, जिस प्रकार, दूसरा पद पहले पद से और छठवां पद पांचवें पद से संबंधित है।

25: 60 :: 45: ? :: 65: 156

- Ans 1. 108
 2. 115
 3. 96
 4. 99

Question ID : 59445919168
 Status : Answered
 Chosen Option : 1

Q.15 एक निश्चित कोड भाषा में, FRUIT को 21-9-5-3-7 लिखा जाता है। इसी कोड भाषा में GRAPE को कैसे लिखा जाएगा?

- Ans 1. 20-9-1-11-2
 2. 7-18-1-16-5
 3. 20-9-1-11-5
 4. 7-18-1-16-2

Question ID : 59445919189
 Status : Answered
 Chosen Option : 1

Q.16 निम्नलिखित वर्णमालाओं को कुछ संख्या के साथ कोडित किया गया है। निम्नलिखित में से कौन सा विकल्प में दिए गए अनुक्रम में व्यवस्थित किए जाने पर एक सार्थक शब्द बनाता है?

LTACRISE
 1 2 3 4 5 6 7 8

- Ans 1. 3, 5, 2, 6, 4, 7, 1, 8
 2. 6, 3, 5, 2, 1, 4, 7, 8
 3. 3, 5, 2, 6, 4, 1, 8, 7
 4. 6, 3, 5, 2, 4, 1, 8, 7

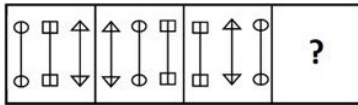
Question ID : 59445919153
 Status : Not Answered
 Chosen Option : --

Q.17 एक निश्चित कोड भाषा में, PREFIX को 17-19-6-7-10-25 के रूप में लिखा जाता है। इसी कोड भाषा में GARDEN को कैसे लिखा जाएगा?

- Ans 1. 8-2-19-5-6-15
 2. 7-2-19-6-5-15
 3. 8-2-19-5-6-14
 4. 7-1-18-4-5-14

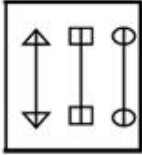
Question ID : 59445919161
 Status : Answered
 Chosen Option : 1

Q.18 उस आकृति का चयन करें, जो निम्न श्रेणी में प्रश्नवाचक चिन्ह (?) के स्थान पर हो सकती है।

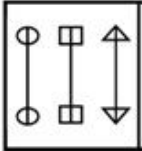


Ans

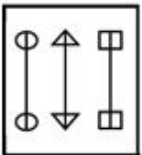
1.



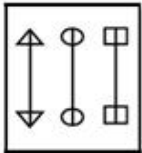
2.



3.



4.



Question ID : 59445919182

Status : Answered

Chosen Option : 2

Q.19 नूरी अपने कॉलेज से चलना शुरू करती है और अपने कोचिंग क्लास के लिए पश्चिम की ओर 9 km चलती है। क्लास में भाग लेने के बाद वह अपने दोस्त के पास पहुंचने के लिए दक्षिण की ओर 7.5 km चलती है। वहां किताबें देने के बाद वह पूर्व की ओर 19 km चलती है और अपने घर पहुंचती है। उसके घर और कॉलेज के बीच की न्यूनतम दूरी ज्ञात करें।

Ans

1. 10 km

2. 12.5 km

3. 12 km

4. 7 km

Question ID : 59445919181

Status : Answered

Chosen Option : 2

Q.20 एक निश्चित कोड भाषा में, E को R, R को N, N को T, T को U, U को A, और A को E के रूप में लिखा जाता है। इस कोड भाषा में NATURE को किस प्रकार लिखा जाएगा?

- Ans
- 1. RNAUTE
 - 2. TERANU
 - 3. ETUANR
 - 4. TEUANR

Question ID : 59445919159
Status : Answered
Chosen Option : 4

Q.21 दिए गए चार शब्दों में तीन किसी तरह से समान हैं, और एक भिन्न (विषम) है। विषम का चयन करें।

- Ans
- 1. Meek (नम्र)
 - 2. Arrogant (अभिमानी)
 - 3. Humble (विनीत)
 - 4. Modest (शालीन)

Question ID : 59445919155
Status : Answered
Chosen Option : 3

Q.22 उस अक्षर का चयन करें, जो निम्न श्रेणी में प्रश्नवाचक चिन्ह (?) के स्थान पर हो सकता है।

T, Q, N, K, H, ?

- Ans
- 1. D
 - 2. E
 - 3. F
 - 4. C

Question ID : 59445919150
Status : Answered
Chosen Option : 2

Q.23 आर्या के पास कुल रु. 500 है, उसी में से वह उत्पाद 'A' को रु. 400/- में खरीदती है और 25% का लाभ प्राप्त करने के लिए किसी अन्य व्यक्ति को बेचती है। अब उसके पास मौजूद सारे रूपये के साथ, वह उत्पाद 'B' खरीदती है और उस पर 20% का लाभ प्राप्त करने के लिए दूसरे व्यक्ति को बेचती है। अब आर्या के पास कुल कितने रूपये हैं?

- Ans
- 1. रु. 600
 - 2. रु. 700
 - 3. रु. 120
 - 4. रु. 720

Question ID : 59445919179
Status : Answered
Chosen Option : 1

Q.24 दिए गए पैटर्न का ध्यानपूर्वक अध्ययन करें और उस संख्या का चयन करें, जो इसमें प्रश्नवाचक चिह्न (?) के स्थान पर हो सकती है।

4	15	5
7	36	?
6	40	8

- Ans
- 1. 9
 - 2. 3
 - 3. 6
 - 4. 7

Question ID : 59445919174
Status : Answered
Chosen Option : 1

Q.25 दिए गए चार शब्द-युग्मों में तीन किसी तरह से समान हैं, और एक भिन्न (विषम) है। विषम का चयन करें।

- Ans
- 1. Knife - Cut (चाकू - काटना)
 - 2. Oar - Row (चप्पू - खेना)
 - 3. Axe - Grind (कुल्हाड़ी - पीसना)
 - 4. Tongs - Feed (चिमटा - परोसना)

Question ID : 59445919186
Status : Answered
Chosen Option : 3

Q.26 यदि 'x' का अर्थ जोड़ है, '+' का अर्थ घटाना है, '-' का अर्थ गुणा और '-' का अर्थ भाग है, तो $16 \div 9 \times 4 + 8 - 2 = ?$ का मान ज्ञात करें।

- Ans
- 1. 24
 - 2. 23
 - 3. 34
 - 4. 14

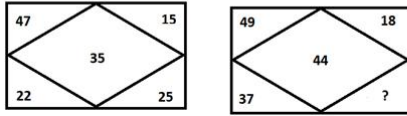
Question ID : 59445919177
Status : Answered
Chosen Option : 2

Q.27 अमित पूर्व दिशा में मुंह किए हुए है, वह वामावर्त दिशा में 45 डिग्री और फिर उसी दिशा में एक बार और 90 डिग्री मुड़ता है तथा फिर दक्षिणावर्त दिशा में 180 डिग्री मुड़ता है। अब वह किस दिशा में मुंह किए हुए है?

- Ans
- 1. दक्षिण
 - 2. दक्षिण पश्चिम
 - 3. दक्षिण पूर्व
 - 4. पश्चिम

Question ID : 59445919180
Status : Answered
Chosen Option : 3

Q.28 दिए गए पैटर्न का ध्यानपूर्वक अध्ययन करें और उस संख्या का चयन करें, जो इसमें प्रश्नवाचक चिह्न (?) के स्थान पर हो सकती है।



- Ans
- 1. 48
 - 2. 50
 - 3. 49
 - 4. 53

Question ID : 59445919175
Status : Answered
Chosen Option : 2

Q.29 रितु की आयु अमित की आयु की चार गुनी है। छह वर्ष पहले, उसकी आयु अमित की आयु की छह गुनी थी। अमित अब कितने वर्ष का है?

- Ans
- 1. 15
 - 2. 30
 - 3. 5
 - 4. 10

Question ID : 59445919176
Status : Answered
Chosen Option : 1

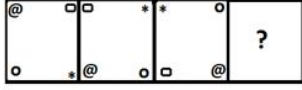
Q.30 दिए गए पैटर्न का ध्यानपूर्वक अध्ययन करें और उस संख्या का चयन करें, जो इसमें प्रश्नवाचक चिह्न (?) के स्थान पर हो सकती है।



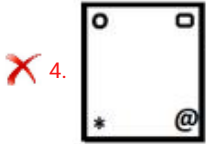
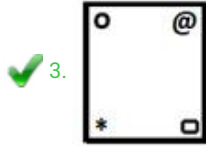
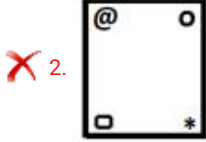
- Ans
- 1. 9
 - 2. 11
 - 3. 12
 - 4. 13

Question ID : 59445919173
Status : Answered
Chosen Option : 3

Q.31 उस आकृति का चयन करें, जो निम्न श्रेणी में प्रश्नवाचक चिन्ह (?) के स्थान पर हो सकती है।



Ans



Question ID : 59445919185

Status : Answered

Chosen Option : 3

Q.32 उस विकल्प का चयन करें, जो तीसरे पद से उसी प्रकार संबंधित है, जिस प्रकार, दूसरा पद पहले पद से संबंधित है।

WIZARD : VKWEMJ :: PIGEON : ?

Ans ✗ 1. QKDIJS

✓ 2. OKDIJT

✗ 3. OLDIKT

✗ 4. LDIJST

Question ID : 59445919158

Status : Answered

Chosen Option : 2

Q.33 दिए गए चार वर्ण-समूहों में तीन किसी तरह से समान हैं, और एक भिन्न (विषम) है। विषम का चयन करें।

Ans ✗ 1. DWYB

✓ 2. HSTF

✗ 3. JQSH

✗ 4. MNPK

Question ID : 59445919187

Status : Answered

Chosen Option : 2

Q.34 संख्याओं के चार समूह दिए गए हैं, जिनमें से तीन समूहों की संख्याओं में कोई सामान्य संबंध है, जबकि एक में नहीं। उस समूह का चयन करें, जिसकी संख्याएं भिन्न (विषम) रूप से संबंधित हैं।

- Ans
- 1. 9: 63 : 81
 - 2. 8: 56: 64
 - 3. 7: 49 : 63
 - 4. 6: 42 : 54

Question ID : 59445919166
Status : Answered
Chosen Option : 2

Q.35 दिए गए समीकरण को संतुलित (सही) करने के लिए, दिए गए चिह्नों (साइन) में किन दो को एक दूसरे की जगह पर बदलना होगा?

$$32 \div 16 - 22 + 2 \times 46 = 4$$

- Ans
- 1. x और +
 - 2. ÷ और x
 - 3. + और ÷
 - 4. + और -

Question ID : 59445919169
Status : Answered
Chosen Option : 2

Q.36 सात दोस्त B, D, F, H, J, K और M केंद्र की ओर मुंह करके एक गोल मेज के किनारे बैठे हुए हैं। B, D और F के एकदम बगल में है। H, F और K के पास नहीं बैठा है। M, जो H के बाईं ओर दूसरे स्थान पर बैठा है, उसके अगल-बगल में J और K बैठे हैं। K और B के बीच में कौन बैठा है?

- Ans
- 1. F
 - 2. J
 - 3. K
 - 4. D

Question ID : 59445919163
Status : Not Answered
Chosen Option : --

Q.37 उस संख्या का चयन करें, जो दिए गई श्रेणी में प्रश्नवाचक चिह्न (?) की जगह पर आ सकता है?

1,12,34,67, ?

- Ans
- 1. 111
 - 2. 100
 - 3. 120
 - 4. 90

Question ID : 59445919165
Status : Answered
Chosen Option : 1

Q.38 उस पद (अक्षर-समूह) का चयन करें, जो निम्न श्रेणी में प्रश्नवाचक चिन्ह (?) के स्थान पर हो सकता है।

AYD, CWF, EUH, GSJ, ?

- Ans
- 1. OPX
 - 2. QOW
 - 3. IQL
 - 4. OPW

Question ID : 59445919151

Status : Answered

Chosen Option : 3

Q.39 उस विकल्प का चयन करें, जो तीसरे पद से उसी प्रकार संबंधित है, जिस प्रकार, दूसरा पद पहले पद से संबंधित है।

कुत्ता : भौंकना :: सियार : ?

- Ans
- 1. पालतू
 - 2. हिनहिनाना
 - 3. रेंकना
 - 4. सियार का बोलना

Question ID : 59445919157

Status : Answered

Chosen Option : 2

Q.40 रुचि और कियारा दोनों इतिहास और अंग्रेजी में अच्छी हैं। सपना और रुचि इतिहास और जीवविज्ञान में अच्छी हैं। गीता और कियारा रसायन विज्ञान और अंग्रेजी में अच्छी हैं। सपना, गीता और नीलम भौतिकी और जीवविज्ञान में अच्छी हैं। कौन जीवविज्ञान, अंग्रेजी और इतिहास तीनों में अच्छी है?

- Ans
- 1. रुचि
 - 2. कियारा
 - 3. गीता
 - 4. सपना

Question ID : 59445919164

Status : Not Answered

Chosen Option : --

Section : General Awareness

Q.1 विश्व ओज़ोन दिवस कब मनाया जाता है?

- Ans
- 1. 16 सितम्बर
 - 2. 20 अक्टूबर
 - 3. 16 अगस्त
 - 4. 20 अगस्त

Question ID : 59445919192

Status : Answered

Chosen Option : 1

Q.2 अंडर -19 क्रिकेट विश्व कप-2020 का विजेता कौन था?

- Ans
- 1. भारत
 - 2. दक्षिण अफ्रीका
 - 3. पाकिस्तान
 - 4. बांग्लादेश

Question ID : 59445919209
Status : Answered
Chosen Option : 4

Q.3 निम्नलिखित नदियों में से किसे दक्षिण गंगा भी कहा जाता है?

- Ans
- 1. नर्मदा
 - 2. महानदी
 - 3. गोदावरी
 - 4. कावेरी

Question ID : 59445919220
Status : Answered
Chosen Option : 1

Q.4 निम्नलिखित में से, कौन से उत्सव के साथ बुलबुल की लड़ाई परंपरागत रूप से संबंधित है?

- Ans
- 1. भोगाली बिहू
 - 2. दुर्गा पूजा
 - 3. ओणम
 - 4. छठ

Question ID : 59445919216
Status : Answered
Chosen Option : 1

Q.5 निम्नलिखित में से कौन सा समुदाय 'जो -मल -लोक' नामक लोक नृत्य से संबंधित है?

- Ans
- 1. भूटिया
 - 2. खासी
 - 3. लेपचा
 - 4. सेण्टिनली

Question ID : 59445919217
Status : Answered
Chosen Option : 1

Q.6 एमेज़ॉन ने किस भारतीय राज्य में अपना विश्व का सबसे बड़ा परिसर भवन बनाया है?

- Ans
- 1. तेलंगाना
 - 2. आंध्रप्रदेश
 - 3. कर्नाटक
 - 4. गुजरात

Question ID : 59445919222
Status : Answered
Chosen Option : 1

Q.7 भारत के भावी संविधान पर चर्चा के लिए दूसरा गोलमेज सम्मेलन निम्नलिखित में से कौन से शहर में हुआ था?

- Ans
- 1. लंदन
 - 2. कैम्ब्रिज
 - 3. मैनचेस्टर
 - 4. बर्मिंघम

Question ID : 59445919200
Status : Answered
Chosen Option : 2

Q.8 भारत के पहले उपग्रह रोधी प्रक्षेपास्त्र परीक्षण मिशन को क्या नाम दिया गया है?

- Ans
- 1. शक्ति
 - 2. घटक
 - 3. सामना
 - 4. वीर

Question ID : 59445919226
Status : Answered
Chosen Option : 1

Q.9 सितम्बर 2019 को नोएडा में आयोजित, संयुक्त राष्ट्र के नेतृत्व वाले मरुस्थलीकरण से लड़ने के लिए अभिसमय की बैठक में भूमि अवक्रमण तटस्थता को कब तक प्राप्त करने की प्रतिबद्धता प्रकट की गई है?

- Ans
- 1. 2028
 - 2. 2030
 - 3. 2032
 - 4. 2025

Question ID : 59445919194
Status : Answered
Chosen Option : 1

Q.10 निम्नलिखित में से कौन सेशासक ने धम्म के अपने दर्शन प्रसार के लिए धम्म-महामात्त नियुक्त किया था?

- Ans
- 1. अशोक
 - 2. समुद्रगुप्त
 - 3. चन्द्रगुप्त मौर्य
 - 4. चन्द्रगुप्त विक्रमादित्य

Question ID : 59445919201
Status : Answered
Chosen Option : 1

Q.11 निम्नलिखित में से कौन से स्थान पर महावीर स्वामी ने अंतिम सांस ली?

- Ans
- 1. बोधगया
 - 2. पटना
 - 3. सीतामढ़ी
 - 4. पावापुरी

Question ID : 59445919213
Status : Answered
Chosen Option : 2

Q.12 नीति आयोग नवाचार सूचकांक 2019 में, महाराष्ट्र को कौन सा स्थान प्राप्त हुआ?

- Ans
- 1. दूसरा
 - 2. चौथा
 - 3. पांचवा
 - 4. तीसरा

Question ID : 59445919197
Status : Answered
Chosen Option : 4

Q.13 दुर्लभ धूमिल तेंदुए का आवास ताले वन्यजीव अभयारण्य कहां स्थित है?

- Ans
- 1. अरुणाचल प्रदेश
 - 2. सिक्किम
 - 3. त्रिपुरा
 - 4. हिमाचल प्रदेश

Question ID : 59445919221
Status : Answered
Chosen Option : 1

Q.14 यदि कोई भारतीय नागरिक राज्य सभा का सदस्य बनना चाहता है, तो उसकी आयु कितने वर्ष होनी जरूरी है?

- Ans
- 1. 28
 - 2. 30
 - 3. 35
 - 4. 32

Question ID : 59445919208
Status : Answered
Chosen Option : 2

Q.15 निम्नलिखित में से कौन सी अनुसूची पंचायतों की सत्ता, प्राधिकार और उत्तरदायित्वों का उल्लेख करती है?

- Ans
- 1. आठवीं
 - 2. ग्यारहवीं
 - 3. दसवीं
 - 4. नौवीं

Question ID : 59445919206
Status : Answered
Chosen Option : 4

Q.16 भारतीय सेना की कॉलेज ऑफ़ मिलिट्री इंजीनियरिंग ने, एक निजी फर्म के साथ संयुक्त रूप से तोप की मार का पता लगाने वाला यंत्र विकसित किया है। इस यंत्र का नाम क्या है?

- Ans
- 1. सार्थ
 - 2. पार्थ
 - 3. अक्ष
 - 4. वेग

Question ID : 59445919228
Status : Answered
Chosen Option : 3

Q.17 नोवाक जोकोविच ने पुरुषों का आस्ट्रेलियन ओपन फाइनल 2020 जीत कर यह खिताब _____ बार जीता।

- Ans
- 1. सातवीं
 - 2. आठवीं
 - 3. छठी
 - 4. नौवीं

Question ID : 59445919212
Status : Answered
Chosen Option : 3

Q.18 निम्नलिखित में से किस उपनिवेशी काल संरचना का निर्माण किंग जॉर्ज पंचम और क्वीन मेरी के भारत यात्रा की स्मृति में हुआ था?

- Ans
- 1. विक्टोरिया टर्मिनस, मुम्बई
 - 2. इंडियागेट, नई दिल्ली
 - 3. विक्टोरिया मेमोरियल, कोलकाता
 - 4. गेटवे ऑफ़ इंडिया, मुम्बई

Question ID : 59445919214
Status : Answered
Chosen Option : 4

Q.19 निम्नलिखित में से कौन से शहर का विमानपत्तन राजीव गाँधी के नाम पर है?

- Ans
- 1. भुवनेश्वर
 - 2. हैदराबाद
 - 3. चेन्नई
 - 4. कोच्ची

Question ID : 59445919219
Status : Answered
Chosen Option : 1

Q.20 भारत में निम्नलिखित में से किस क्षेत्र में बैक्ट्रियन ऊँट पाए जाते हैं?

- Ans
- 1. पंजाब
 - 2. राजस्थान
 - 3. गुजरात
 - 4. लद्दाख

Question ID : 59445919193
Status : Answered
Chosen Option : 2

Q.21 नंदुर माधमेश्वर नामक तरभूमि कौन से राज्य में स्थित है?

- Ans
- 1. ओडिशा
 - 2. महाराष्ट्र
 - 3. तमिलनाडु
 - 4. केरल

Question ID : 59445919191
Status : Answered
Chosen Option : 3

Q.22 निम्नलिखित में से कौन से राजवंश की राजधानी ऐहोल में थी?

- Ans 1. चालुक्य
 2. पांड्य
 3. चेर
 4. पल्लव

Question ID : 59445919202
Status : Answered
Chosen Option : 4

Q.23 विश्व स्वास्थ्य संगठन द्वारा चीन से फैले कोरोना वायरस रोग को निम्नलिखित में से कौन सा नाम दिया गया है?

- Ans 1. चिनिड-19
 2. केफ़िड-19
 3. हुबिड -19
 4. कोविड-19

Question ID : 59445919196
Status : Answered
Chosen Option : 4

Q.24 केन्द्रीय बजट 2020-21 में किस वर्ष तक 1 लाख करोड़ के मत्स्यन निर्यात के लक्ष्य को प्राप्त करना है?

- Ans 1. 2022-23
 2. 2025-26
 3. 2024-25
 4. 2023-24

Question ID : 59445919224
Status : Answered
Chosen Option : 4

Q.25 निम्नलिखित राज्यों में से, कौन सा राज्य सरकारी कर्मचारियों के भांति निजी शिक्षा क्षेत्र में प्रसूति हितलाभ लागू करने वाला पहला भारतीय राज्य बना?

- Ans 1. केरल
 2. मध्यप्रदेश
 3. गुजरात
 4. तमिलनाडु

Question ID : 59445919203
Status : Answered
Chosen Option : 1

Q.26 एक राष्ट्रीय स्तर के स्वास्थ्य संबंधित मिशन के अंतर्गत, अल्बेनडाजोल नामक दवा बच्चों को समय-समय पर दी गई। इस दवा का मुख्य रूप से प्रयोग किस के लिए होता है?

- Ans
- 1. कृमी को निकालने के लिए
 - 2. विटामिन सी की कमी के उपचार लिए
 - 3. लौह की कमी के उपचार लिए
 - 4. कैल्सियम की कमी के उपचार लिए

Question ID : 59445919227
Status : Answered
Chosen Option : 4

Q.27 भारत में निम्नलिखित में से क्षेत्रीय परिषदों का अध्यक्ष कौन है?

- Ans
- 1. भारत के प्रधानमंत्री
 - 2. भारत के वित्तमंत्री
 - 3. भारत के राष्ट्रपति
 - 4. भारत के गृहमंत्री

Question ID : 59445919205
Status : Answered
Chosen Option : 1

Q.28 निम्नलिखित राज्यों में से कौन से राज्य का राज्य पशु रेड पांडा है?

- Ans
- 1. मिज़ोरम
 - 2. असम
 - 3. अरुणाचल प्रदेश
 - 4. सिक्किम

Question ID : 59445919190
Status : Answered
Chosen Option : 2

Q.29 भारत में हाल तक अनम्य पॉलियूरिथेन (पी.यू.) फोम में ब्लोविंग पदार्थ के रूप में किसका उपयोग किया जाता था?

- Ans
- 1. HCFC-22
 - 2. HCFC-21
 - 3. HCFC-141b
 - 4. HCFC-124

Question ID : 59445919229
Status : Answered
Chosen Option : 3

Q.30 नवम्बर 2019 में, निम्नलिखित में से किसने टेस्ट मैचों में सबसे तेज़ 7000 रन बनाने का रिकार्ड बनाया?

- Ans
- 1. विराट कोहली
 - 2. स्टीव स्मिथ
 - 3. रोहित शर्मा
 - 4. केन विलियमसन

Question ID : 59445919210
Status : Answered
Chosen Option : 2

Q.31 'स्वच्छ रेल, स्वच्छ भारत 2019' सर्वेक्षण के अनुसार, निम्नलिखित में कौन से शहर के रेलवे स्टेशन ने 'गैर उपनगरीय समूह' (एन.एस.जी.) में सबसे स्वच्छ रेलवे स्टेशन के रूप में मान्यता प्राप्त की है?

- Ans
- 1. नई दिल्ली
 - 2. जयपुर
 - 3. मैसूर
 - 4. अमृतसर

Question ID : 59445919198
Status : Answered
Chosen Option : 2

Q.32 दक्षिण कन्नड़ और उसके निकटवर्ती क्षेत्रों में परंपरागत रूप से मनाए जाने वाले कंबाला उत्सव में कौन सी रेस होती है?

- Ans
- 1. सांड
 - 2. कुत्ता
 - 3. नाव
 - 4. भैंस

Question ID : 59445919215
Status : Answered
Chosen Option : 1

Q.33 कैगा परमाणु ऊर्जा संयंत्र किस राज्य में स्थित है?

- Ans
- 1. महाराष्ट्र
 - 2. ओडिशा
 - 3. कर्नाटक
 - 4. आंध्रप्रदेश

Question ID : 59445919218
Status : Answered
Chosen Option : 2

Q.34 निम्नलिखित में से कौन से शहर में श्री गुरु नानक देव जी को ज्ञानोदय की प्राप्ति हुई थी?

- Ans
- 1. करतारपुर
 - 2. सुल्तानपुर लोधी
 - 3. गुरुदासपुर
 - 4. अमृतसर

Question ID : 59445919204
Status : Answered
Chosen Option : 1

Q.35 ई-कॉमर्स की विशाल कंपनी एमेज़ॉन ने किस भारतीय शहर के समीप अपनी क्लाउड कंप्यूटिंग सेवाओं के लिए दो डेटा सेंटर खोलने पर विचार कर रही है?

- Ans
- 1. कोच्ची
 - 2. अमरावती
 - 3. जयपुर
 - 4. हैदराबाद

Question ID : 59445919223
Status : Answered
Chosen Option : 4

Q.36 फ़रवरी 2020 में निम्नलिखित में से कौन से देश ने भारत को लगभग 1.867 बिलियन डॉलर की लागत में, उसकी एकीकृत वायु सुरक्षा हथियार प्रणाली बेचने पर सहमति दी?

- Ans
- 1. फ़्रांस
 - 2. रूस
 - 3. इज़राइल
 - 4. संयुक्त राज्य अमरीका

Question ID : 59445919195
Status : Answered
Chosen Option : 4

Q.37 भारत में ऑटोमोबाइल के संदर्भ में, एम15 का अर्थ क्या है?

- Ans
- 1. पेट्रोल का मिश्रित किस्म
 - 2. डीजल का मिश्रित किस्म
 - 3. विद्युत् इंजन
 - 4. हाईड्रोजेन ईंधन वाले ईंजिन

Question ID : 59445919199
Status : Answered
Chosen Option : 4

Q.38 भारतीय खिलाड़ी मनु भाकर कौन से खेल में देश का प्रतिनिधित्व करती हैं?

- Ans
- 1. क्रिकेट
 - 2. शूटिंग
 - 3. कुश्ती
 - 4. साईक्लिंग

Question ID : 59445919211
Status : Answered
Chosen Option : 2

Q.39 निम्नलिखित में से कौन संविधान सभा का अस्थायी सभापति था?

- Ans
- 1. सी. राजगोपालाचारी
 - 2. जे. बी. कृपलानी
 - 3. सचिदानंद सिन्हा
 - 4. जी. बी. पन्त

Question ID : 59445919207
Status : Answered
Chosen Option : 3

Q.40 भारत में कौन से वर्ष में चौदह बैंको का राष्ट्रीयकरण किया गया?

- Ans
- 1. 1969
 - 2. 1971
 - 3. 1973
 - 4. 1966

Question ID : 59445919225
Status : Answered
Chosen Option : 1

Section : Arithmetical and Numerical Ability

Q.1 क्लीयरेंस सेल में एक साड़ी जो 10,500 रुपये में बेची गई, वह अब 8925 रुपये में बेची गई छूट प्रतिशत क्या है?

- Ans
- 1. 15%
 - 2. 10%
 - 3. 25%
 - 4. 5%

Question ID : 59445919255
Status : Answered
Chosen Option : 1

Q.2 X, 20 घंटे में 80 पेज लिख सकता है। X और Y दोनों मिलकर 27 घंटे में 135 पेज लिख सकते हैं। Y अकेला 20 पेज कितने समय में लिख सकता है?

- Ans
- 1. 10 घंटे
 - 2. 20 घंटे
 - 3. 15 घंटे
 - 4. 12 घंटे

Question ID : 59445919263
Status : Answered
Chosen Option : 2

Q.3 1120 और 5120 महत्तम समापवर्तक बराबर है:

- Ans
- 1. 100
 - 2. 160
 - 3. 20
 - 4. 240

Question ID : 59445919243
Status : Answered
Chosen Option : 2

Q.4 1.34343434..... का मान (मूल्य) है:

- Ans
- 1. 133/99
 - 2. 133/100
 - 3. 134/100
 - 4. 134/99

Question ID : 59445919234
Status : Answered
Chosen Option : 3

Q.5 मोहित ने अर्धवार्षिक आधार पर 5% की वार्षिक चक्रवृद्धि दर से 64000 रुपये का एक घर खरीदा। उसके द्वारा डेढ़ वर्ष बाद भुगतान किया गया ब्याज ज्ञात कीजिए।

- Ans
- 1. 4700 रुपये
 - 2. 4810 रुपये
 - 3. 4921 रुपये
 - 4. 4900 रुपये

Question ID : 59445919261
Status : Answered
Chosen Option : 3

Q.6 X द्वारा $\frac{1}{4}$ दीवार को 6 दिनों में बनाया जाता है। Y बची हुई दीवार को 12 दिनों में पूरा करता है। X और Y दोनों ने मिलकर इस दीवार को कितने दिनों में पूरा किया होगा?

- Ans
- 1. $9 + \frac{3}{5}$ दिन
 - 2. $8 + \frac{1}{8}$ दिन
 - 3. 7 दिन
 - 4. $7 + \frac{2}{3}$ दिन

Question ID : 59445919265
Status : Answered
Chosen Option : 1

Q.7 तीन आइटम जिनका वजन 408 किग्रा, 468 किग्रा और 516 किग्रा है, उन्हें एक मापने वाले ग्लास से मापा जाना है। ऐसे में कांच की अधिकतम क्षमता क्या होनी चाहिए?

- Ans
- 1. 32 किग्रा
 - 2. 12 किग्रा
 - 3. 22 किग्रा
 - 4. 20 किग्रा

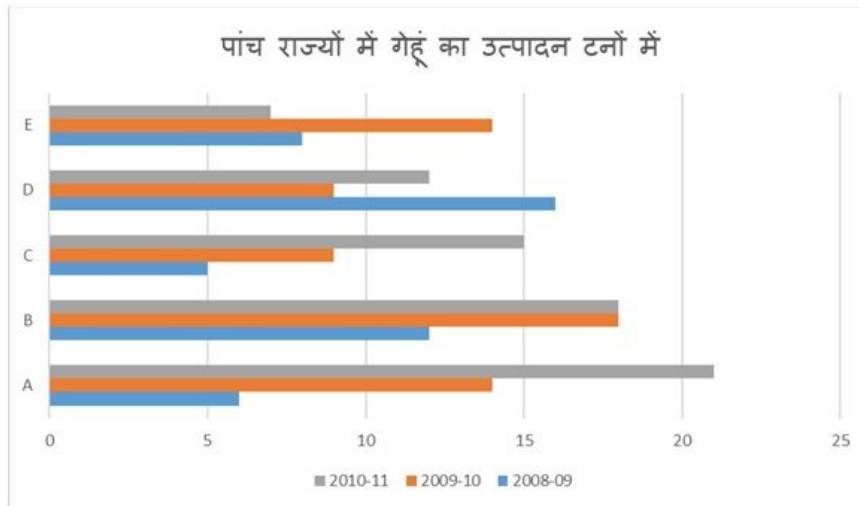
Question ID : 59445919245
Status : Answered
Chosen Option : 2

Q.8 $\left[(-\frac{7}{42}) - \frac{25}{30}\right]$ का मान (मूल्य) है:

- Ans
- 1. 1
 - 2. $\frac{1}{6}$
 - 3. -1
 - 4. 0

Question ID : 59445919230
Status : Answered
Chosen Option : 1

Q.9 नीचे दिए गए ग्राफ का अध्ययन करें।



कौन से राज्य ने वर्ष 2010-11 में सर्वाधिक उत्पादन किया है?

- Ans
- 1. E
 - 2. B
 - 3. C
 - 4. A

Question ID : 59445919269

Status : Answered

Chosen Option : 4

Q.10 इस बार ग्राफ में नीचे दी गई तीन दुकानों A, B और C की टीवी की बिक्री को दिखाया गया है। इन तीनों दुकान की टीवी की बिक्री का अनुपात है:



- Ans
- 1. 3:4:6
 - 2. 3:6:4
 - 3. 2:5:4
 - 4. 2:3:5

Question ID : 59445919267

Status : Answered

Chosen Option : 2

Q.11 एक वस्तु जिस पर 275 रुपये अंकित है उसे 5% की छूट पर बेचा जाता है। लेकिन फिर भी विक्रेता को 4.5% का लाभ प्राप्त होता है। उसने उस वस्तु के लिए कितनी राशि का भुगतान किया था?

- Ans
- 1. 50 रुपये
 - 2. 150 रुपये
 - 3. 260 रुपये
 - 4. 250 रुपये

Question ID : 59445919257
Status : Answered
Chosen Option : 2

Q.12 यदि $A:B :: 1:2$, $B:C :: 5:9$ तथा $C:D :: 2:5$ है, तो $A : D$ बराबर है:

- Ans
- 1. 2:7
 - 2. 1:8
 - 3. 1:9
 - 4. 2:9

Question ID : 59445919249
Status : Answered
Chosen Option : 3

Q.13 नौ के एक-पांचवे के दो-तिहाई का एक-तिहाई _____ के बराबर है।

- Ans
- 1. 2/9
 - 2. 1/3
 - 3. 2/5
 - 4. 1/5

Question ID : 59445919237
Status : Answered
Chosen Option : 4

Q.14 30 लीटर के मिश्रण में दूध और पानी का अनुपात 7:3 है। मिश्रण में कितना पानी है?

- Ans
- 1. 7 लीटर
 - 2. 4 लीटर
 - 3. 10 लीटर
 - 4. 9 लीटर

Question ID : 59445919248
Status : Answered
Chosen Option : 4

Q.15 $1/12$ का कितने गुना $3/8$ है?

- Ans
- 1. $1/17$
 - 2. $2/3$
 - 3. $1/24$
 - 4. $9/2$

Question ID : 59445919231
Status : Answered
Chosen Option : 3

Q.16 निम्नलिखित में से कौन-सी परिमेय संख्या सबसे बड़ी है?
(A) $-3/4$ (B) $-4/9$ (C) $-4/7$ (D) $2/3$

- Ans
- 1. C
 - 2. D
 - 3. A
 - 4. B

Question ID : 59445919235
Status : Answered
Chosen Option : 4

Q.17 आयत की लंबाई को 20% तक बढ़ाया जाता है तथा इसकी चौड़ाई को 20% तक ही घटाया जाता है। क्षेत्रफल में कितने % तक कमी आएगी?

- Ans
- 1. 2%
 - 2. 4%
 - 3. 10%
 - 4. 8%

Question ID : 59445919252
Status : Answered
Chosen Option : 2

Q.18 दो संख्याओं का महत्तम समापवर्तक और लघुत्तम समापवर्त्य क्रमशः 15 और 225 है तथा इनमें से एक संख्या 75 है तो दूसरी संख्या क्या होगी?

- Ans
- 1. 65
 - 2. 55
 - 3. 35
 - 4. 45

Question ID : 59445919242
Status : Answered
Chosen Option : 4

Q.19 साधारण ब्याज पर किस प्रतिशत वार्षिक दर से कोई धनराशि 8 वर्षों में 5 गुना हो जाएगी?

- Ans
- 1. 40%
 - 2. 50%
 - 3. 23%
 - 4. 67%

Question ID : 59445919258
Status : Answered
Chosen Option : 2

Q.20 0.6499 के बीच स्थित है:

- Ans
- 1. 0.6 और 0.64
 - 2. 0.64 और 0.65
 - 3. -0.649 और -0.65
 - 4. 0.65 और 0.69

Question ID : 59445919238
Status : Answered
Chosen Option : 2

Q.21 एक प्रकाशक द्वारा निम्नलिखित शीर्षों के तहत व्यय को वहन किया गया है। वह इस व्यय को पाई चार्ट के माध्यम से दर्शाना चाहता है।

कागज	20%
प्रिंट	25%
बाइंडिंग	30%
फुटकर (विविध)	10%
रॉयल्टी	15%

प्रिंट की तुलना में बाइंडिंग का सेक्टर एंगल कितना अधिक है?

- Ans
- 1. 20 डिग्री
 - 2. 12 डिग्री
 - 3. 18 डिग्री
 - 4. 15 डिग्री

Question ID : 59445919268
Status : Answered
Chosen Option : 3

Q.22 सरित को 12 % की छूट के बाद भी किसी वस्तु के लिए 4400 रुपये का भुगतान करना पड़ता है तो बताइए कि वस्तु की वास्तविक कीमत क्या थी?

- Ans
- 1. 4840 रुपये
 - 2. 5500 रुपये
 - 3. 3000 रुपये
 - 4. 5000 रुपये

Question ID : 59445919254
Status : Answered
Chosen Option : 4

Q.23 एक कार 6 घंटे में और दूसरी 540 मिनट में 360 किमी की दूरी तय करती है। उनकी गति का अनुपात क्या है?

- Ans
- 1. 4:5
 - 2. 3:2
 - 3. 4:3
 - 4. 2:3

Question ID : 59445919247
Status : Answered
Chosen Option : 2

Q.24 यदि भिन्न को स्वयं से गुणा किया जाता है, फिर इसके व्युत्क्रम द्वारा विभाजित करने पर $512/27$ प्राप्त किया जाए, तो वास्तविक भिन्न क्या है?

- Ans
- 1. $4/3$
 - 2. $1/27$
 - 3. $8/27$
 - 4. $8/3$

Question ID : 59445919241
Status : Answered
Chosen Option : 4

Q.25 यदि $216x^4 = x^7$ है, तब x का मान (मूल्य) है:

- Ans
- 1. 12
 - 2. 18
 - 3. 6
 - 4. 4

Question ID : 59445919232
Status : Answered
Chosen Option : 3

Q.26 समलंब (ट्रैपेजियम) जिसकी समांतर भुजाएं 77 सेमी और 60 सेमी तथा गैर समांतर भुजाएं 25 सेमी और 26 सेमी हैं, का क्षेत्रफल ज्ञात कीजिए।

- Ans
- 1. 1700 वर्ग सेमी
 - 2. 1630 वर्ग सेमी
 - 3. 1644 वर्ग सेमी
 - 4. 1900 वर्ग सेमी

Question ID : 59445919262
Status : Not Answered
Chosen Option : --

Q.27 साधारण ब्याज पर 800 रुपये की राशि तीन वर्षों में 920 रुपये हो जाती है। यदि ब्याज की दर में 3% की वृद्धि की जाती है तो वह राशि होगी?

- Ans
- 1. 989 रुपये
 - 2. 987 रुपये
 - 3. 1008 रुपये
 - 4. 992 रुपये

Question ID : 59445919259
Status : Answered
Chosen Option : 4

Q.28 सबसे बड़ी संख्या जो 43, 91, 183 को विभाजित करती है, ताकि समान शेषफल रहें, वह है:

- Ans
- 1. 7
 - 2. 13
 - 3. 9
 - 4. 4

Question ID : 59445919244
Status : Answered
Chosen Option : 4

Q.29 पांच किलोग्राम चीनी में से A ने 12% और B ने 16% चीनी का उपयोग किया, तो बताइए कि कितनी चीनी शेष बची है?

- Ans
- 1. 1 किलोग्राम
 - 2. 3 किलोग्राम
 - 3. 3.6 किलोग्राम
 - 4. 4 किलोग्राम

Question ID : 59445919250
Status : Answered
Chosen Option : 3

Q.30 मैंने तीन वस्तुएं 21.75 रु., 12.05 रु. और 8.70 रु. की खरीदी हैं। मैंने दुकानदार को 50 रुपये का नोट दिया। उसे कितने पैसे लौटाने चाहिए?

- Ans
- 1. 7.55 रुपये
 - 2. 7.50 रुपये
 - 3. 06 रुपये
 - 4. 6.50 रुपये

Question ID : 59445919239
Status : Answered
Chosen Option : 2

Q.31 मधुलता 10 दिनों में 2/3 काम को पूरा करती है। उसी काम के 3/5वें भाग को पूरा करने में उसे कितना समय लगेगा?

- Ans
- 1. 9 दिन
 - 2. 7 दिन
 - 3. 6 दिन
 - 4. 2 दिन

Question ID : 59445919264
Status : Answered
Chosen Option : 1

Q.32 किसी वस्तु को 19.50 रुपये की बेचने पर एक व्यक्ति को 30% का लाभ प्राप्त होता है। 40% का लाभ प्राप्त करने के लिए उसे विक्रय मूल्य में कितनी वृद्धि करनी चाहिए?

- Ans
- 1. 1 रुपये
 - 2. 4 रुपये
 - 3. 1.50 रुपये
 - 4. 6 रुपये

Question ID : 59445919256
Status : Answered
Chosen Option : 3

Q.33 यदि एक दुकानदार किसी पंखों को 390 रुपये में बेचता है तो वह 20% लाभ प्राप्त करता है। उसने उस पंखों को कितने रुपये में खरीदा था?

- Ans
- 1. 325 रुपये
 - 2. 314 रुपये
 - 3. 340 रुपये
 - 4. 300 रुपये

Question ID : 59445919253
Status : Answered
Chosen Option : 1

Q.34 तीन दोस्त एक वृत्ताकार ट्रैक के आसपास साइकिल चला रहे थे। उन्होंने क्रमशः 91/6 सेकंड, 65/4 सेकंड और 56/3 सेकंड में एक राउंड पूरा किया। वे किस समय फिर से एक ही बिंदु पर साथ होंगे?

- Ans
- 1. 3640 सेकंड
 - 2. 1000/3 सेकंड
 - 3. 280 सेकंड
 - 4. 364 सेकंड

Question ID : 59445919246
Status : Not Answered
Chosen Option : --

Q.35 यदि A, B की तुलना में 10 % अधिक है, तो B, A से X % कम है। X का मान क्या है?

- Ans
- 1. 10%
 - 2. 11%
 - 3. 111/112%
 - 4. 100/11%

Question ID : 59445919251
Status : Answered
Chosen Option : 4

Q.36 $\{248 + [51 + (169)^{1/2}]^{1/2}\}^{1/2}$ का मान है:

- Ans
- 1. 16.6
 - 2. 16
 - 3. 0
 - 4. 14

Question ID : 59445919236
Status : Not Answered
Chosen Option : --

Q.37 नीचे दिए गए फोटोग्राफ में तीन महीने की अवधि में डेवलपर द्वारा बेचे गए घरों की संख्या को दर्शाया गया है।

	★ का अर्थ 50 घर है।
जनवरी	★ ★ ★ ★ ★ ★
फरवरी	★ ★ ★ ★ ★
मार्च	★ ★ ★

निम्नलिखित में से कौन-सा सही है?

Ans 1.

एक महीने में बेचे जाने वाले घरों की सबसे कम संख्या 3 है।

2. तीन महीनों में बेचे गए घरों की कुल संख्या 180 है।

3. जनवरी में 60 घर बेचे गए थे।

4.

मार्च की तुलना में 100 से अधिक घरों को फरवरी में बेचा गया था।

Question ID : 59445919266

Status : Answered

Chosen Option : 4

Q.38 तीन वर्ष पहले एक कस्बे की जनसंख्या 3600 थी और अब 4800 है। यदि संवृद्धि की दर स्थिर एवं वार्षिक रूप से संयोजित (कम्पाउन्डिड) रहे तो आने वाले तीन वर्षों की जनसंख्या कितनी होगी?

Ans 1. 7200

2. 5000

3. 5200

4. 6400

Question ID : 59445919260

Status : Answered

Chosen Option : 4

Q.39 $(1 - 1/2) (1 - 1/3) (1 - 1/4) \dots (1 - 1/p)$ के सरलीकरण पर प्राप्त होगा:

Ans 1. $2/p$

2. $1/p$

3. $P(p+1)$

4. $1-p$

Question ID : 59445919240

Status : Answered

Chosen Option : 2

Q.40 एक पूर्ण घन प्राप्त करने के लिए 392 को किस छोटी संख्या से गुणा करना चाहिए?

- Ans
- 1. 5
 - 2. 3
 - 3. 7
 - 4. 2

Question ID : 59445919233
Status : Answered
Chosen Option : 3

Section : English Language and Comprehension

Q.1 Complete the following sentences with the most suitable option.

James broke the toy, _____ ?

- Ans
- 1. Didn't he
 - 2. Can't he
 - 3. Doesn't he
 - 4. Isn't it

Question ID : 59445919272
Status : Answered
Chosen Option : 2

Q.2 Read the following sentence and identify which part of the sentence has an error.

One of the most/ widely spread bad habit/ is the use of tobacco/ It is now smoked and chewed by men, women and children

- Ans
- 1. is the use of tobacco
 - 2. It is now smoked and chewed by men, women and children
 - 3. One of the most
 - 4. widely spread bad habit

Question ID : 59445919271
Status : Answered
Chosen Option : 4

Q.3 Select the most appropriate option to substitute the given group of words.

Escort with armed force:

- Ans
- 1. Convoy
 - 2. Recruit
 - 3. Hostage
 - 4. Monitor

Question ID : 59445919301
Status : Answered
Chosen Option : 4

Q.4 Choose the option that is closest in meaning to the idiom/phrase given in brackets in each of the following sentences.

Tony wanted to (ask his friend out) but was too scared.

- Ans
- 1. To perform
 - 2. Take action
 - 3. Invite for a date
 - 4. Invite for home

Question ID : 59445919296
Status : Answered
Chosen Option : 2

Q.5 Choose the incorrectly spelt word from the options given below.

- Ans
- 1. abject
 - 2. Conciuous
 - 3. Imperiously
 - 4. Flanked

Question ID : 59445919283
Status : Answered
Chosen Option : 3

Q.6 Choose the option that is closest in meaning to the idiom/phrase given in brackets in each of the following sentences.

The vehicle (takes up too much room).

- Ans
- 1. Occupy
 - 2. Takes
 - 3. Occupies
 - 4. Wastes

Question ID : 59445919292
Status : Answered
Chosen Option : 2

Q.7 Choose the incorrectly spelt word from the options given below.

- Ans
- 1. Democracy
 - 2. Grammer
 - 3. Yesterday
 - 4. Conquer

Question ID : 59445919286
Status : Answered
Chosen Option : 1

Q.8 Choose the option that is closest in meaning to the idiom/phrase given in brackets in each of the following sentences.

A chip on your shoulder:

- Ans 1. Always harping over the past
 2. Being angry about something that happened in the past
 3. Being happy
 4. A piece of wood on shoulder

Question ID : 59445919294
Status : Answered
Chosen Option : 4

Q.9 Select the most appropriate option to substitute the given group of words.

Unfit to be eaten:

- Ans 1. Ineligible
 2. Inedible
 3. Bakery
 4. Potable

Question ID : 59445919302
Status : Answered
Chosen Option : 2

Q.10 Complete the following sentences with the most suitable option.

The captain was annoyed _____ not carried out his orders.

- Ans 1. That he has
 2. That he have
 3. What he had
 4. That he had

Question ID : 59445919277
Status : Answered
Chosen Option : 2

Q.11 Choose the incorrectly spelt word from the options given below.

- Ans 1. Transperant
 2. Cacophony
 3. Loath
 4. Melodious

Question ID : 59445919284
Status : Answered
Chosen Option : 2

Q.12 Choose the incorrectly spelt word from the options given below.

- Ans
- 1. Happen
 - 2. Interjection
 - 3. Inhabitents
 - 4. Quotation

Question ID : 59445919289
Status : Answered
Chosen Option : 2

Q.13 Select the most appropriate option to substitute the given group of words.

One whose thoughts are turned inward:

- Ans
- 1. Extrovert
 - 2. Introvert
 - 3. Ambivert
 - 4. Egocentric

Question ID : 59445919297
Status : Answered
Chosen Option : 4

Q.14 Choose the correct antonym of the given word.

Daub

- Ans
- 1. Besmirch
 - 2. Stain
 - 3. Begrime
 - 4. Purge

Question ID : 59445919282
Status : Answered
Chosen Option : 3

Q.15 Choose the option that is closest in meaning to the idiom/phrase given in brackets in each of the following sentences.

This is the time (to take stock of) the whole situation.

- Ans
- 1. To interrogate
 - 2. To survey
 - 3. Very active
 - 4. To adopt

Question ID : 59445919293
Status : Answered
Chosen Option : 3

Q.16 Choose the incorrectly spelt word from the options given below.

- Ans 1. Purplexed
 2. Disposition
 3. Prohibition
 4. Adversary

Question ID : 59445919285
Status : Answered
Chosen Option : 3

Q.17 Complete the following sentences with the most suitable option.

Train up a child in a way he _____ go.

- Ans 1. Shall
 2. Could
 3. Should
 4. Wouldn't

Question ID : 59445919273
Status : Answered
Chosen Option : 4

Q.18 Select the most appropriate option to substitute the given group of words.

An instrument for recording the time and amplitude of earthquakes:

- Ans 1. Galvanometer
 2. Drill
 3. Lactometer
 4. Seismograph

Question ID : 59445919298
Status : Answered
Chosen Option : 1

Q.19 Choose the incorrectly spelt word from the options given below.

- Ans 1. Reigned
 2. Extravagence
 3. Evidence
 4. Whipping

Question ID : 59445919288
Status : Answered
Chosen Option : 4

Q.20 Select the most appropriate option to substitute the given group of words.

Living at the same time:

- Ans 1. Contemporary
 2. Oriental
 3. Eligible
 4. Occidental

Question ID : 59445919300
 Status : Answered
 Chosen Option : 3

Q.21 Complete the following sentences with the most suitable option.

The child had a fall when _____ was playing.

- Ans 1. They
 2. She
 3. It
 4. He

Question ID : 59445919274
 Status : Answered
 Chosen Option : 1

Q.22 Choose the correct synonym of the given word.

Veritable

- Ans 1. Untypical
 2. Atypical
 3. Imilative
 4. Authentic

Question ID : 59445919281
 Status : Answered
 Chosen Option : 2

Q.23 Choose the option that is closest in meaning to the idiom/phrase given in brackets in each of the following sentences.

This argument will not (hold water)

- Ans 1. It is unsound
 2. Easily solved
 3. It not secrete
 4. It leaks

Question ID : 59445919290
 Status : Answered
 Chosen Option : 4

Q.24 Complete the following sentences with the most suitable option.

Manu is weak from the sickness _____ she had recently.

- Ans
- 1. What
 - 2. Which
 - 3. Is
 - 4. That

Question ID : 59445919276
Status : Answered
Chosen Option : 4

Q.25 Choose the option that is the correct passive form of the given sentence.

The students will make him Head boy:

- Ans
- 1. The students made him head boy
 - 2. They would make him the head boy
 - 3. He will be made head boy by the students
 - 4. He would be made head boy by the students

Question ID : 59445919303
Status : Answered
Chosen Option : 2

Q.26 Choose the option that is the correct passive form of the given sentence.

We do not permit anyone to use mobile phones during working hours.

- Ans
- 1. The use of mobile phones during working hours is not permitted.
 - 2. Mobile phones should not be used by anyone during working hours.
 - 3. Mobile phones cannot be used by anybody
 - 4. Mobile phones cannot be used by anyone during working hours.

Question ID : 59445919304
Status : Answered
Chosen Option : 1

Q.27 Choose the option that is closest in meaning to the idiom/phrase given in brackets in each of the following sentences.

A piece of cake:

- Ans
- 1. A task that is simple to do
 - 2. A tasty piece of food
 - 3. An easy way of spending money
 - 4. The task which is different to do

Question ID : 59445919295
Status : Answered
Chosen Option : 2

Q.28 Choose the incorrectly spelt word from the options given below.

- Ans
- 1. Devoid
 - 2. Comperison
 - 3. Impudence
 - 4. Professional

Question ID : 59445919287
Status : Answered
Chosen Option : 2

Q.29 Choose the option that is closest in meaning to the idiom/phrase given in brackets in each of the following sentences

There's (no love lost between them)

- Ans
- 1. Very intimate
 - 2. Not in good terms
 - 3. In good terms
 - 4. Like each other

Question ID : 59445919291
Status : Answered
Chosen Option : 4

Q.30 Select the most appropriate option to substitute the given group of words.

Unable to pay debts:

- Ans
- 1. slander
 - 2. Affidavit
 - 3. Insolvent
 - 4. Forgery

Question ID : 59445919299
Status : Answered
Chosen Option : 1

Q.31 Complete the following sentences with the most suitable option.

The fisherman brought different kinds of _____.

- Ans
- 1. Fishes
 - 2. Birds
 - 3. Flowers
 - 4. Animals

Question ID : 59445919275
Status : Answered
Chosen Option : 1

Q.32 Choose the correct synonym of the given word.

Bad

- Ans
- 1. Substandard
 - 2. Efficient
 - 3. Excellent
 - 4. Skilled

Question ID : 59445919280
Status : Answered
Chosen Option : 3

Q.33 Read the following sentence and identify which part of the sentence has an error.

It has been part of Nelson's prayer/ that the British fleet/ may be distinguished/ by humanity in the victory he expected.

- Ans
- 1. That the British fleet
 - 2. May be distinguished
 - 3. It has been part of Nelson's prayer
 - 4. By humanity in the victory her expected

Question ID : 59445919270
Status : Answered
Chosen Option : 2

Q.34 Choose the correct synonym of the given word.

Elucidate

- Ans
- 1. Resole
 - 2. Confuse
 - 3. Tangle
 - 4. Not clear

Question ID : 59445919278
Status : Answered
Chosen Option : 2

Q.35 Choose the correct synonym of the given word.

Frown

- Ans
- 1. Smile
 - 2. Hook
 - 3. Pleasant
 - 4. Scowl

Question ID : 59445919279
Status : Answered
Chosen Option : 3

Comprehension:

Read the passage and answer the questions that follow:

Mike and Morris lived in the same village. While Morris owned the largest jewelry shop in the village, Mike was a poor farmer. Both had large families with many sons, daughters-in-law and grandchildren. One fine day, Mike, tired of not being able to feed his family, decided to leave the village and move to the city where he was certain to earn enough to feed everyone. Along with his family, he left the village for the city. At night, they stopped under a large tree. There was a stream running nearby where they could freshen up themselves. He told his sons to clear the area below the tree, he told his wife to fetch water and he instructed his daughters-in-law to make up the fire and started cutting wood from the tree himself. They didn't know that in the branches of the tree, there was a thief hiding. He watched as Mike's family worked together and also noticed that they had nothing to cook. Mike's wife also thought the same and asked her husband "Everything is ready but what shall we eat?" Mike raised his hands to heaven and said "Don't worry. He is watching all this from above. He will help us."

The thief got worried as he had seen that the family was large and worked well together.

Taking advantage of the fact that they did not know he was hiding in the branches, he decided to make a quick escape. He climbed down safely when they were not looking and ran for his life. But, he left behind the bundle of stolen jewels and money which dropped into Mike's lap.

Mike opened it and jumped with joy when he saw the contents. The family gathered all their belongings and returned to the village. There was great excitement when they told everyone how they got rich.

Morris thought that the tree was miraculous and this was a nice and quick way to earn some money. He ordered his family to pack some clothes and they set off as if on a journey. They also stopped under the same tree and Morris started commanding everyone as Mike had done. But no one in his family was willing to obey his orders. Being a rich family, they were used to having servants all around. So, the one who went to the river to fetch water enjoyed a nice bath. The one who went to get wood for fire went off to sleep. Morris's wife said "Everything is ready but what shall we eat?" Morris raised his hands and said, "Don't worry. He is watching all this from above. He will help us."

As soon as he finished saying, the thief jumped down from the tree with a knife in hand.

Seeing him, everyone started running here and there to save their lives. The thief stole everything they had and Morris and his family had to return to the village empty handed, having lost all their valuables that they had taken with them.

SubQuestion No : 36

Q.36 "He is watching all this from above"? What did Mike mean by this?

- Ans
- 1. He caught the thief
 - 2. He had spotted the thief and wanted to scare him
 - 3. He was begging the thief to help his family
 - 4. He had faith in God

Question ID : 59445919308

Status : Answered

Chosen Option : 3

Comprehension:

Read the passage and answer the questions that follow:

Mike and Morris lived in the same village. While Morris owned the largest jewelry shop in the village, Mike was a poor farmer. Both had large families with many sons, daughters-in-law and grandchildren. One fine day, Mike, tired of not being able to feed his family, decided to leave the village and move to the city where he was certain to earn enough to feed everyone. Along with his family, he left the village for the city. At night, they stopped under a large tree. There was a stream running nearby where they could freshen up themselves. He told his sons to clear the area below the tree, he told his wife to fetch water and he instructed his daughters-in-law to make up the fire and started cutting wood from the tree himself. They didn't know that in the branches of the tree, there was a thief hiding. He watched as Mike's family worked together and also noticed that they had nothing to cook. Mike's wife also thought the same and asked her husband "Everything is ready but what shall we eat?" Mike raised his hands to heaven and said "Don't worry. He is watching all this from above. He will help us."

The thief got worried as he had seen that the family was large and worked well together.

Taking advantage of the fact that they did not know he was hiding in the branches, he decided to make a quick escape. He climbed down safely when they were not looking and ran for his life. But, he left behind the bundle of stolen jewels and money which dropped into Mike's lap. Mike opened it and jumped with joy when he saw the contents. The family gathered all their belongings and returned to the village. There was great excitement when they told everyone how they got rich.

Morris thought that the tree was miraculous and this was a nice and quick way to earn some money. He ordered his family to pack some clothes and they set off as if on a journey. They also stopped under the same tree and Morris started commanding everyone as Mike had done. But no one in his family was willing to obey his orders. Being a rich family, they were used to having servants all around. So, the one who went to the river to fetch water enjoyed a nice bath. The one who went to get wood for fire went off to sleep. Morris's wife said "Everything is ready but what shall we eat?" Morris raised his hands and said, "Don't worry. He is watching all this from above. He will help us."

As soon as he finished saying, the thief jumped down from the tree with a knife in hand. Seeing him, everyone started running here and there to save their lives. The thief stole everything they had and Morris and his family had to return to the village empty handed, having lost all their valuables that they had taken with them.

SubQuestion No : 37

Q.37 Which of the following quotes best suits Morris's character?

- Ans
- 1. It is possible to satisfy your need but impossible to satisfy greed.
 - 2. As long as greed will be stronger than compassion, there will be suffering.
 - 3. Greed and greediness fail in the end
 - 4. Beware of greed

Question ID : 59445919310

Status : Answered

Chosen Option : 2

Comprehension:

Read the passage and answer the questions that follow:

Mike and Morris lived in the same village. While Morris owned the largest jewelry shop in the village, Mike was a poor farmer. Both had large families with many sons, daughters-in-law and grandchildren. One fine day, Mike, tired of not being able to feed his family, decided to leave the village and move to the city where he was certain to earn enough to feed everyone. Along with his family, he left the village for the city. At night, they stopped under a large tree. There was a stream running nearby where they could freshen up themselves. He told his sons to clear the area below the tree, he told his wife to fetch water and he instructed his daughters-in-law to make up the fire and started cutting wood from the tree himself. They didn't know that in the branches of the tree, there was a thief hiding. He watched as Mike's family worked together and also noticed that they had nothing to cook. Mike's wife also thought the same and asked her husband "Everything is ready but what shall we eat?" Mike raised his hands to heaven and said "Don't worry. He is watching all this from above. He will help us."

The thief got worried as he had seen that the family was large and worked well together.

Taking advantage of the fact that they did not know he was hiding in the branches, he decided to make a quick escape. He climbed down safely when they were not looking and ran for his life. But, he left behind the bundle of stolen jewels and money which dropped into Mike's lap. Mike opened it and jumped with joy when he saw the contents. The family gathered all their belongings and returned to the village. There was great excitement when they told everyone how they got rich.

Morris thought that the tree was miraculous and this was a nice and quick way to earn some money. He ordered his family to pack some clothes and they set off as if on a journey. They also stopped under the same tree and Morris started commanding everyone as Mike had done. But no one in his family was willing to obey his orders. Being a rich family, they were used to having servants all around. So, the one who went to the river to fetch water enjoyed a nice bath. The one who went to get wood for fire went off to sleep. Morris's wife said "Everything is ready but what shall we eat?" Morris raised his hands and said, "Don't worry. He is watching all this from above. He will help us."

As soon as he finished saying, the thief jumped down from the tree with a knife in hand. Seeing him, everyone started running here and there to save their lives. The thief stole everything they had and Morris and his family had to return to the village empty handed, having lost all their valuables that they had taken with them.

SubQuestion No : 38**Q.38 Why did the thief return to the tree?**

- Ans
- 1. To wait for Morris's family
 - 2. Not mentioned in the passage
 - 3. To set up a trap
 - 4. To wait for Mike to return

Question ID : 59445919309

Status : Answered

Chosen Option : 1

Comprehension:

Read the passage and answer the questions that follow:

Mike and Morris lived in the same village. While Morris owned the largest jewelry shop in the village, Mike was a poor farmer. Both had large families with many sons, daughters-in-law and grandchildren. One fine day, Mike, tired of not being able to feed his family, decided to leave the village and move to the city where he was certain to earn enough to feed everyone. Along with his family, he left the village for the city. At night, they stopped under a large tree. There was a stream running nearby where they could freshen up themselves. He told his sons to clear the area below the tree, he told his wife to fetch water and he instructed his daughters-in-law to make up the fire and started cutting wood from the tree himself. They didn't know that in the branches of the tree, there was a thief hiding. He watched as Mike's family worked together and also noticed that they had nothing to cook. Mike's wife also thought the same and asked her husband "Everything is ready but what shall we eat?" Mike raised his hands to heaven and said "Don't worry. He is watching all this from above. He will help us."

The thief got worried as he had seen that the family was large and worked well together.

Taking advantage of the fact that they did not know he was hiding in the branches, he decided to make a quick escape. He climbed down safely when they were not looking and ran for his life. But, he left behind the bundle of stolen jewels and money which dropped into Mike's lap.

Mike opened it and jumped with joy when he saw the contents. The family gathered all their belongings and returned to the village. There was great excitement when they told everyone how they got rich.

Morris thought that the tree was miraculous and this was a nice and quick way to earn some money. He ordered his family to pack some clothes and they set off as if on a journey. They also stopped under the same tree and Morris started commanding everyone as Mike had done. But no one in his family was willing to obey his orders. Being a rich family, they were used to having servants all around. So, the one who went to the river to fetch water enjoyed a nice bath. The one who went to get wood for fire went off to sleep. Morris's wife said "Everything is ready but what shall we eat?" Morris raised his hands and said, "Don't worry. He is watching all this from above. He will help us."

As soon as he finished saying, the thief jumped down from the tree with a knife in hand.

Seeing him, everyone started running here and there to save their lives. The thief stole everything they had and Morris and his family had to return to the village empty handed, having lost all their valuables that they had taken with them.

SubQuestion No : 39

Q.39 Which of the following is not a character trait of Mike?

- Ans 1. A man with a large family
 2. A hard working man
 3. Believer in God
 4. A poor man

Question ID : 59445919306

Status : Answered

Chosen Option : 4

Comprehension:

Read the passage and answer the questions that follow:

Mike and Morris lived in the same village. While Morris owned the largest jewelry shop in the village, Mike was a poor farmer. Both had large families with many sons, daughters-in-law and grandchildren. One fine day, Mike, tired of not being able to feed his family, decided to leave the village and move to the city where he was certain to earn enough to feed everyone. Along with his family, he left the village for the city. At night, they stopped under a large tree. There was a stream running nearby where they could freshen up themselves. He told his sons to clear the area below the tree, he told his wife to fetch water and he instructed his daughters-in-law to make up the fire and started cutting wood from the tree himself. They didn't know that in the branches of the tree, there was a thief hiding. He watched as Mike's family worked together and also noticed that they had nothing to cook. Mike's wife also thought the same and asked her husband "Everything is ready but what shall we eat?" Mike raised his hands to heaven and said "Don't worry. He is watching all this from above. He will help us."

The thief got worried as he had seen that the family was large and worked well together.

Taking advantage of the fact that they did not know he was hiding in the branches, he decided to make a quick escape. He climbed down safely when they were not looking and ran for his life. But, he left behind the bundle of stolen jewels and money which dropped into Mike's lap. Mike opened it and jumped with joy when he saw the contents. The family gathered all their belongings and returned to the village. There was great excitement when they told everyone how they got rich.

Morris thought that the tree was miraculous and this was a nice and quick way to earn some money. He ordered his family to pack some clothes and they set off as if on a journey. They also stopped under the same tree and Morris started commanding everyone as Mike had done. But no one in his family was willing to obey his orders. Being a rich family, they were used to having servants all around. So, the one who went to the river to fetch water enjoyed a nice bath. The one who went to get wood for fire went off to sleep. Morris's wife said "Everything is ready but what shall we eat?" Morris raised his hands and said, "Don't worry. He is watching all this from above. He will help us."

As soon as he finished saying, the thief jumped down from the tree with a knife in hand. Seeing him, everyone started running here and there to save their lives. The thief stole everything they had and Morris and his family had to return to the village empty handed, having lost all their valuables that they had taken with them.

SubQuestion No : 40

Q.40 Morris can be described as.-----

- Ans 1. a greedy and jealous man.
 2. a kind and generous man.
 3. a hard hearted bully.
 4. a rich businessman.

Question ID : 59445919307

Status : Answered

Chosen Option : 3

Section : Hindi Language and Comprehension

Q.1 निम्न में से सोमधारा का पर्यायवाची क्या है?

- Ans 1. शोभा
 2. स्वर्ग
 3. राजमहल
 4. सुनार

Question ID : 59445919336

Status : Answered

Chosen Option : 2

Q.2 निम्न में सम कौन सा शब्द पुल्लिंग है?

- Ans
- 1. राख
 - 2. भूख
 - 3. पाख
 - 4. काँख

Question ID : 59445919342
Status : Answered
Chosen Option : 3

Q.3 निम्न में से श्रेय का विलोम कौन है?

- Ans
- 1. अकाट्य
 - 2. कलंक
 - 3. अस्त
 - 4. असीम

Question ID : 59445919331
Status : Answered
Chosen Option : 3

Q.4 वंचक का पर्यायवाची क्या है?

- Ans
- 1. गीदड
 - 2. औषधि
 - 3. कपास
 - 4. सिन्दूर

Question ID : 59445919326
Status : Answered
Chosen Option : 4

Q.5 विषाद शब्द का विशेषण कौन है?

- Ans
- 1. विषर्ण
 - 2. विषण्ण
 - 3. हर्ष
 - 4. विषण

Question ID : 59445919324
Status : Answered
Chosen Option : 1

Q.6 धनिया क्या है?

- Ans 1. पुल्लिंग
 2. उभयलिंग
 3. स्त्रीलिंग
 4. नपुंसकलिंग

Question ID : 59445919337
Status : Answered
Chosen Option : 1

Q.7 जहर किस भाषा का शब्द है?

- Ans 1. फारसी
 2. अरबी
 3. तुर्की
 4. पुर्तगाली

Question ID : 59445919322
Status : Answered
Chosen Option : 2

Q.8 वाक्य के कितने अवयव होते हैं?

- Ans 1. 5
 2. 8
 3. 2
 4. 7

Question ID : 59445919338
Status : Answered
Chosen Option : 1

Q.9 यथार्थ में कौन सा समास है?

- Ans 1. द्वित्रिगु समास
 2. तत्पुरुष समास
 3. अव्ययी भाव समास
 4. कर्मधारय समास

Question ID : 59445919312
Status : Answered
Chosen Option : 1

Q.10 निम्न में कौन सा वाक्य मिश्र वाक्य है?

- Ans
- 1. जब राम आया, तब मोहन गया।
 - 2. जब राम आयेगा, तब मोहन जायेगा।
 - 3. राम के आने पर मोहन गया।
 - 4. राम के आने पर मोहन जायेगा।

Question ID : 59445919340
Status : Answered
Chosen Option : 1

Q.11 वे उठें तो, हम सब बैठें वाक्य में प्रयुक्त काल है:

- Ans
- 1. आसन्न भविष्यत् काल
 - 2. सम्भाव्य भविष्यत् काल
 - 3. हेतुमद् भविष्यत् काल
 - 4. संदिग्ध भविष्यत् काल

Question ID : 59445919344
Status : Answered
Chosen Option : 4

Q.12 निम्न में से कृपा का विलोम कौन है?

- Ans
- 1. ढीला
 - 2. अधिक
 - 3. अकाज
 - 4. कोप

Question ID : 59445919328
Status : Answered
Chosen Option : 3

Q.13 जारज का विलोम क्या है?

- Ans
- 1. औरस
 - 2. विजाति
 - 3. बुढ़ापा
 - 4. अचित्य

Question ID : 59445919329
Status : Answered
Chosen Option : 1

Q.14 निम्न में से कौन सा युग्म सही है?

- Ans
- 1. हेम-विभूति
 - 2. भाषा-वागीशा
 - 3. अंबु-भृत्य
 - 4. गण-कांता

Question ID : 59445919334
Status : Answered
Chosen Option : 3

Q.15 हिन्दी में उपसर्गों की संख्या कितनी होती है?

- Ans
- 1. 10
 - 2. 05
 - 3. 15
 - 4. 08

Question ID : 59445919313
Status : Answered
Chosen Option : 4

Q.16 अब्जा का पर्यायवाची क्या है?

- Ans
- 1. लक्ष्मी
 - 2. अभाग्गा
 - 3. शिव
 - 4. सूर्य

Question ID : 59445919325
Status : Answered
Chosen Option : 1

Q.17 निम्न में से हयात का पर्यायवाची क्या है?

- Ans
- 1. रक्षक
 - 2. जीवन
 - 3. कदंब
 - 4. साल

Question ID : 59445919335
Status : Answered
Chosen Option : 1

Q.18 योजक चिन्ह में प्रयुक्त होने वाला विराम चिन्ह है:

- Ans
- 1. (.)
 - 2. (-)
 - 3. (')
 - 4. (?)

Question ID : 59445919345
Status : Answered
Chosen Option : 1

Q.19 इकाई का विलोम कौन है?

- Ans
- 1. अनुदित
 - 2. प्रिय
 - 3. समग्र
 - 4. अनुपादेय

Question ID : 59445919332
Status : Answered
Chosen Option : 3

Q.20 तेरे भाग्य खुल गए। भाग्य शब्द में कौन सा बचन है?

- Ans
- 1. बहु बचन
 - 2. एक बचन
 - 3. उभय बचन
 - 4. द्वि बचन

Question ID : 59445919339
Status : Answered
Chosen Option : 1

Q.21 अत्यूष्म में कौन सी संधि है?

- Ans
- 1. गुण स्वर संधि
 - 2. दीर्घ स्वर संधि
 - 3. यण् स्वर संधि
 - 4. अयादि स्वर संधि

Question ID : 59445919311
Status : Answered
Chosen Option : 2

Q.22 समाई शब्द में कौन सा प्रत्यय है?

- Ans
- 1. इ-प्रत्यय
 - 2. ई-प्रत्यय
 - 3. आई-प्रत्यय
 - 4. आइ-प्रत्यय

Question ID : 59445919314
Status : Answered
Chosen Option : 4

Q.23 सत्कृत्य शब्द में कौन सा समास है?

- Ans
- 1. गति तत्पुरुष समास
 - 2. मयूरव्यंसकादि तत्पुरुष समास
 - 3. तत्पुरुष समास
 - 4. मध्यम लोपी तत्पुरुष समास

Question ID : 59445919323
Status : Answered
Chosen Option : 3

Q.24 लोटा किस प्रकार का शब्द है?

- Ans
- 1. तत्सम
 - 2. विदेशी
 - 3. तद्भव
 - 4. देशज

Question ID : 59445919316
Status : Answered
Chosen Option : 4

Q.25 कोई आदमी रो रहा है। वाक्य में कोई शब्द क्या है?

- Ans
- 1. संबन्ध वाचक सर्वनाम
 - 2. अनिश्चय वाचक सर्वनाम
 - 3. समूह वाचक सर्वनाम
 - 4. सार्वनामिक विशेषण

Question ID : 59445919318
Status : Answered
Chosen Option : 2

Q.26 गौरव खाना खा रहा था। किस काल का वाक्य है?

- Ans
- 1. संदिग्ध भूत
 - 2. अपूर्ण भूत
 - 3. पूर्ण भूत
 - 4. आसन्न भूत

Question ID : 59445919343
Status : Answered
Chosen Option : 3

Q.27 वार्धक्य का विलोम कौन है?

- Ans
- 1. मधुर
 - 2. यौवन
 - 3. सुन्दर
 - 4. प्रेम

Question ID : 59445919330
Status : Answered
Chosen Option : 2

Q.28 वह कुत्ते को डंडे से मारता है। वाक्य में कौन सी क्रिया है?

- Ans
- 1. पूर्वकालिक क्रिया
 - 2. पुनरुक्त संयुक्त क्रिया
 - 3. द्विकर्मक क्रिया
 - 4. इच्छा बोधक क्रिया

Question ID : 59445919321
Status : Answered
Chosen Option : 3

Q.29 समाचार में कौन सा बचन है?

- Ans
- 1. एक बचन
 - 2. द्वि बचन
 - 3. उभय बचन
 - 4. बहु बचन

Question ID : 59445919341
Status : Answered
Chosen Option : 1

Q.30 निम्न में से सुकृत का पर्यायवाची क्या है?

- Ans 1. नीरवता
 2. योद्धा
 3. सेवक
 4. शिविर

Question ID : 59445919333
Status : Answered
Chosen Option : 3

Q.31 संघ शब्द में कौन सी संज्ञा है?

- Ans 1. व्यक्ति वाचक
 2. भाव वाचक
 3. समूह वाचक
 4. जाति वाचक

Question ID : 59445919319
Status : Answered
Chosen Option : 3

Q.32 इनमें अनिश्चय वाचक सर्वनाम कौन सा है?

- Ans 1. कोई
 2. जो
 3. वह
 4. कौन

Question ID : 59445919320
Status : Answered
Chosen Option : 1

Q.33 सरहंग का पर्यायवाची क्या है?

- Ans 1. प्रकृति
 2. समुद्र
 3. कोतवाल
 4. नागर

Question ID : 59445919327
Status : Answered
Chosen Option : 4

Q.34 कैंची किस भाषा का शब्द है?

- Ans
- 1. फारसी
 - 2. पुर्तगाली
 - 3. तुर्की
 - 4. अरबी

Question ID : 59445919317

Status : Answered

Chosen Option : 1

Q.35 अंधेरा का तत्सम शब्द क्या है?

- Ans
- 1. अंधकार
 - 2. निशा
 - 3. अंधियारा
 - 4. रात्रि

Question ID : 59445919315

Status : Answered

Chosen Option : 2

Comprehension:

निम्नलिखित गद्यांश को पढ़ें और प्रश्नों के उत्तर दें:

जो समझता है कि वह दूसरों का उपकार कर रहा है वह अबोध है, जो समझता है कि दूसरे उसका अपकार कर रहे हैं वह भी बुद्धिहीन है। कौन किसका उपकार करता है, कौन किसका अपकार कर रहा है? मनुष्य जी रहा है, केवल जी रहा है, अपनी इच्छा से नहीं, इतिहास विधाता की योजना के अनुसार। किसी की उससे सुख मिल जाय, बहुत अच्छी बात है, नहीं मिल सका, कोई बात नहीं, परंतु उसे अभिमान नहीं होना चाहिए। सुख पहुँचाने का अभिमान यदि गलत है, तो दुख पहुँचाने का अभिमान तो नितांत गलत है।

दुख और सुख तो मन के विकल्प हैं। सुखी वह है जिसका मन वश में है, दुखी वह है जिसका मन परवश है। परवश होने का अर्थ है खुशामद करना, दाँत निपोरना, चाटुकारिता, हॉ-हजूरी। जिसका मन अपने वश में नहीं है वही दूसरे के मन का छंदावर्तन करता है, अपने को छिपाने के लिए मिथ्या आडंबर रचता है, दूसरों को फँसाने के लिए जाल बिछाता है। कुटज इन सब मिथ्याचारों से मुक्त है। वह वशी है। वह वैरागी है। राजा जनक की तरह संसार में रहकर, संपूर्ण भोगों को भोगकर भी उनसे मुक्त है। जनक की ही भाँति वह घोषणा करता है। "मैं स्वार्थ के लिए अपने मन को सदा दूसरे के मन में घुसाता नहीं फिरता, इसलिए मैं मन को जीत सका हूँ उसे वश में कर सका हूँ।"

SubQuestion No : 36

Q.36 मनुष्य किसकी इच्छा से जी रहा है?

- Ans
- 1. माता
 - 2. प्रकृति
 - 3. पिता
 - 4. इतिहास विधाता

Question ID : 59445919348

Status : Answered

Chosen Option : 4

Comprehension:

निम्नलिखित गद्यांश को पढ़ें और प्रश्नों के उत्तर दें:

जो समझता है कि वह दूसरों का उपकार कर रहा है वह अबोध है, जो समझता है कि दूसरे उसका अपकार कर रहे हैं वह भी बुद्धिहीन है। कौन किसका उपकार करता है, कौन किसका अपकार कर रहा है? मनुष्य जी रहा है, केवल जी रहा है, अपनी इच्छा से नहीं, इतिहास विधाता की योजना के अनुसार। किसी की उससे सुख मिल जाय, बहुत अच्छी बात है, नहीं मिल सका, कोई बात नहीं, परंतु उसे अभिमान नहीं होना चाहिए। सुख पहुँचाने का अभिमान यदि गलत है, तो दुख पहुँचाने का अभिमान तो नितांत गलत है।

दुख और सुख तो मन के विकल्प हैं। सुखी वह है जिसका मन वश में है, दुखी वह है जिसका मन परवश है। परवश होने का अर्थ है खुशामद करना, दाँत निपोरना, चाटुकारिता, हॉ-हजूरी। जिसका मन अपने वश में नहीं है वही दूसरे के मन का छंदावर्तन करता है, अपने को छिपाने के लिए मिथ्याआडंबर रचता है, दूसरों को फँसाने के लिए जाल बिछाता है। कुटज इन सब मिथ्याचारों से मुक्त है। वह वशी है। वह वैरागी है। राजा जनक की तरह संसार में रहकर, संपूर्ण भोगों को भोगकर भी उनसे मुक्त है। जनक की ही भाँति वह घोषणा करता है। "मैं स्वार्थ के लिए अपने मन को सदा दूसरे के मन में घुसाता नहीं फिरता, इसलिए मैं मन को जीत सका हूँ उसे वश में कर सका हूँ।"

SubQuestion No : 37

Q.37 जिसका मन अपने नियंत्रण में रहता है, वह _____ है।

- Ans
- 1. परेशान
 - 2. दुखी
 - 3. सुखी
 - 4. निराश

Question ID : 59445919347

Status : Answered

Chosen Option : 3

Comprehension:

निम्नलिखित गद्यांश को पढ़ें और प्रश्नों के उत्तर दें:

जो समझता है कि वह दूसरों का उपकार कर रहा है वह अबोध है, जो समझता है कि दूसरे उसका अपकार कर रहे हैं वह भी बुद्धिहीन है। कौन किसका उपकार करता है, कौन किसका अपकार कर रहा है? मनुष्य जी रहा है, केवल जी रहा है, अपनी इच्छा से नहीं, इतिहास विधाता की योजना के अनुसार। किसी की उससे सुख मिल जाय, बहुत अच्छी बात है, नहीं मिल सका, कोई बात नहीं, परंतु उसे अभिमान नहीं होना चाहिए। सुख पहुँचाने का अभिमान यदि गलत है, तो दुख पहुँचाने का अभिमान तो नितांत गलत है।

दुख और सुख तो मन के विकल्प हैं। सुखी वह है जिसका मन वश में है, दुखी वह है जिसका मन परवश है। परवश होने का अर्थ है खुशामद करना, दाँत निपोरना, चाटुकारिता, हॉ-हजूरी। जिसका मन अपने वश में नहीं है वही दूसरे के मन का छंदावर्तन करता है, अपने को छिपाने के लिए मिथ्याआडंबर रचता है, दूसरों को फँसाने के लिए जाल बिछाता है। कुटज इन सब मिथ्याचारों से मुक्त है। वह वशी है। वह वैरागी है। राजा जनक की तरह संसार में रहकर, संपूर्ण भोगों को भोगकर भी उनसे मुक्त है। जनक की ही भाँति वह घोषणा करता है। "मैं स्वार्थ के लिए अपने मन को सदा दूसरे के मन में घुसाता नहीं फिरता, इसलिए मैं मन को जीत सका हूँ उसे वश में कर सका हूँ।"

SubQuestion No : 38

Q.38 प्रस्तुत अपठित गद्यांश में किस विधा का प्रयोग किया गया है?

- Ans
- 1. संस्मरण
 - 2. रिपोर्टाज
 - 3. डायरी
 - 4. निबन्ध

Question ID : 59445919351

Status : Answered

Chosen Option : 1

Test

Prime

By Adda247

Previous Year Papers PDF

PRACTICE MORE, SCORE HIGHER!



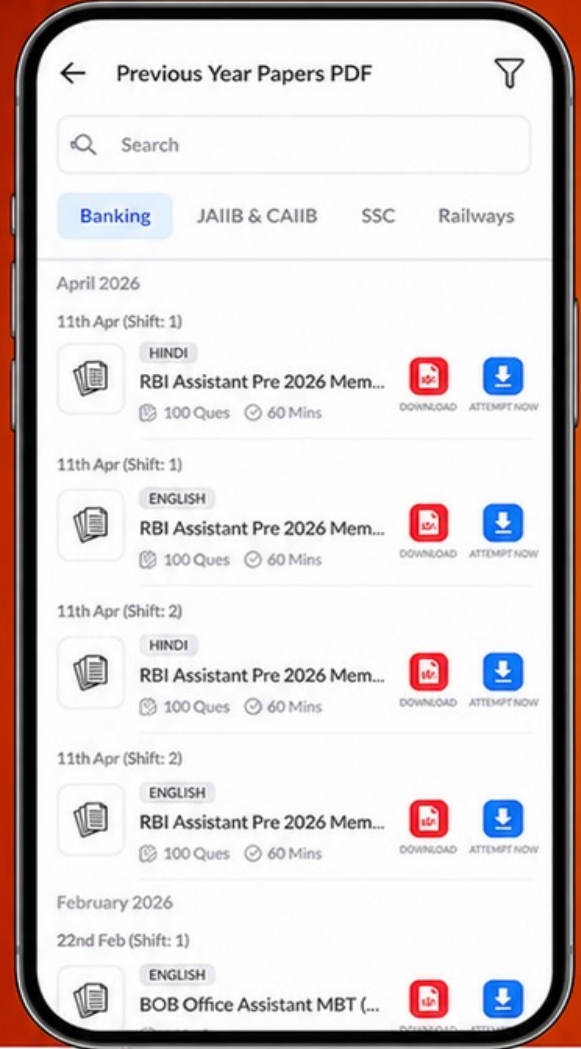
Free
25,000+
PDF's

High-Quality | Exam-Wise | Updated Regularly

ATTEMPT AS
MOCK



Turn PDFs into real exam experience.
Analyze. Improve. Succeed.



Topic-wise &
Exam-wise PDFs



Download &
Study Offline



Attempt as Mock
& Track Score



Smart Analysis
& Performance

AVAILABLE IN



Banking



SSC



Railway



Teaching



UGC



Agriculture



Nursing



Bihar



UP



Punjab



WB



Odisha



TN



AP & Telangana



Haryana



DOWNLOAD THE APP



Comprehension:

निम्नलिखित गद्यांश को पढ़ें और प्रश्नों के उत्तर दें:

जो समझता है कि वह दूसरों का उपकार कर रहा है वह अबोध है, जो समझता है कि दूसरे उसका अपकार कर रहे हैं वह भी बुद्धिहीन है। कौन किसका उपकार करता है, कौन किसका अपकार कर रहा है? मनुष्य जी रहा है, केवल जी रहा है, अपनी इच्छा से नहीं, इतिहास विधाता की योजना के अनुसार। किसी की उससे सुख मिल जाय, बहुत अच्छी बात है, नहीं मिल सका, कोई बात नहीं, परंतु उसे अभिमान नहीं होना चाहिए। सुख पहुँचाने का अभिमान यदि गलत है, तो दुख पहुँचाने का अभिमान तो नितांत गलत है।

दुख और सुख तो मन के विकल्प हैं। सुखी वह है जिसका मन वश में है, दुखी वह है जिसका मन परवश है। परवश होने का अर्थ है खुशामद करना, दाँत निपोरना, चाटुकारिता, हाँ-हजूरी। जिसका मन अपने वश में नहीं है वही दूसरे के मन का छंदावर्तन करता है, अपने को छिपाने के लिए मिथ्याआडंबर रचता है, दूसरों को फँसाने के लिए जाल बिछाता है। कुटज इन सब मिथ्याचारों से मुक्त है। वह वशी है। वह वैरागी है। राजा जनक की तरह संसार में रहकर, संपूर्ण भोगों को भोगकर भी उनसे मुक्त है। जनक की ही भाँति वह घोषणा करता है। "मैं स्वार्थ के लिए अपने मन को सदा दूसरे के मन में घुसाता नहीं फिरता, इसलिए मैं मन को जीत सका हूँ उसे वश में कर सका हूँ।"

SubQuestion No : 39

Q.39 प्रस्तुत गद्यांश का शीर्षक क्या है?

- Ans
- 1. जीवन
 - 2. कुटज
 - 3. प्रतिभा
 - 4. प्रेरणा

Question ID : 59445919350

Status : Answered

Chosen Option : 1

Comprehension:

निम्नलिखित गद्यांश को पढ़ें और प्रश्नों के उत्तर दें:

जो समझता है कि वह दूसरों का उपकार कर रहा है वह अबोध है, जो समझता है कि दूसरे उसका अपकार कर रहे हैं वह भी बुद्धिहीन है। कौन किसका उपकार करता है, कौन किसका अपकार कर रहा है? मनुष्य जी रहा है, केवल जी रहा है, अपनी इच्छा से नहीं, इतिहास विधाता की योजना के अनुसार। किसी की उससे सुख मिल जाय, बहुत अच्छी बात है, नहीं मिल सका, कोई बात नहीं, परंतु उसे अभिमान नहीं होना चाहिए। सुख पहुँचाने का अभिमान यदि गलत है, तो दुख पहुँचाने का अभिमान तो नितांत गलत है।

दुख और सुख तो मन के विकल्प हैं। सुखी वह है जिसका मन वश में है, दुखी वह है जिसका मन परवश है। परवश होने का अर्थ है खुशामद करना, दाँत निपोरना, चाटुकारिता, हाँ-हजूरी। जिसका मन अपने वश में नहीं है वही दूसरे के मन का छंदावर्तन करता है, अपने को छिपाने के लिए मिथ्याआडंबर रचता है, दूसरों को फँसाने के लिए जाल बिछाता है। कुटज इन सब मिथ्याचारों से मुक्त है। वह वशी है। वह वैरागी है। राजा जनक की तरह संसार में रहकर, संपूर्ण भोगों को भोगकर भी उनसे मुक्त है। जनक की ही भाँति वह घोषणा करता है। "मैं स्वार्थ के लिए अपने मन को सदा दूसरे के मन में घुसाता नहीं फिरता, इसलिए मैं मन को जीत सका हूँ उसे वश में कर सका हूँ।"

SubQuestion No : 40

Q.40 मन के विकल्प क्या हैं?

- Ans
- 1. वसुधैव कुटुम्बकम्
 - 2. दुख और सुख
 - 3. आपसी भाईचारा
 - 4. प्रेम-सद्भाव

Question ID : 59445919349

Status : Answered

Chosen Option : 2