

**Punjab
PC**

**Previous Year Paper
Paper-I & II
07 Aug, 2024 Shift 1**



**Test
Prime**

By Adda247

ALL EXAMS, ONE SUBSCRIPTION



Test. Analyze. Improve. Repeat.



Don't just *prepare*. *Perform*.

Test Prime — built only for mock tests.



1,50,000+
Mock Tests



25,000+
Previous Year Papers



800+
Exam Covered



500% Refund
on Selection



5 lakh+
Free Quizzes



Daily
Free PDFs



Job Alerts
Stay Updated

- Multilingual
- Detailed Solution
- Strong and Weak Areas



**All India
Rankings**

Compete with lakhs.
Rank. Improve. Repeat.



← Adda247 test prime

Rating ▾

Editors' choice

New



Adda247 Test Prime
Adda Education • Education
📌 Installed



DOWNLOAD THE APP





PUNJAB POLICE

Police to its last particle is duty

Exam Name	POLICE CONSTABLE IN DISTRICT AND ARMED CADRE OF PUNJAB POLICE 1st Jul to 13th Aug 2024
Registration Number	
Application No	
Roll No	
Applicant Name	
Exam Date	07/08/2024
Shift	9:00 AM - 12:00 PM
Subject	CONSTABLE IN DISTRICT AND ARMED CADRE OF PUNJAB POLICE PAPER I & PAPER II
Marks Obtained	70

Section : General Awareness

Q.1 ਹੇਠਾਂ ਦਿੱਤੇ ਵਿੱਚੋਂ ਕਿਹੜਾ ਵਿਕਲਪ ਆਕਸੀ ਕਿਰਿਆ ਦਾ ਸਭ ਤੋਂ ਵਧੀਆ ਵਰਣਨ ਕਰਦਾ ਹੈ?

- A. ਸਰੀਰਕ ਕਿਰਿਆ ਜੋ ਤਾਕਤ ਦੀ ਸਿਖਲਾਈ 'ਤੇ ਕੇਂਦਰਿਤ ਹੈ
- B. ਸਰੀਰਕ ਕਿਰਿਆ ਜੋ ਲਚਕਤਾ ਅਤੇ ਸੰਤੁਲਨ ਵਿੱਚ ਸੁਧਾਰ ਕਰਦੀ ਹੈ
- C. ਸਰੀਰਕ ਕਿਰਿਆ ਜੋ ਇੱਕ ਵਿਸਤ੍ਰਿਤ ਸਮੇਂ ਤੱਕ ਦਿਲ ਦੀ ਧੜਕਣ ਅਤੇ ਸਾਹ ਦੀ ਗਤੀ ਨੂੰ ਵਧਾਉਂਦੀ ਹੈ
- D. ਸਰੀਰਕ ਕਿਰਿਆ ਜੋ ਆਰਾਮ ਅਤੇ ਤਣਾਅ ਨੂੰ ਘਟਾਉਣ ਲਈ ਉਤਸ਼ਾਹਿਤ ਕਰਦੀ ਹੈ।

Ans 1. D
 2. A
 3. B
 4. C

Question ID : 630680760433
 Option 1 ID : 6306802980680
 Option 2 ID : 6306802980677
 Option 3 ID : 6306802980678
 Option 4 ID : 6306802980679

Status : Answered

Chosen Option : 1

Marks : 0

Q.2 ਸਤੰਬਰ 2022 ਤੱਕ ਕਿਸ ਰਾਜ/ਕੇਂਦਰ ਸ਼ਾਸਿਤ ਪ੍ਰਦੇਸ਼ ਨੂੰ 'ਹਰ ਘਰ ਜਲ' ਅਤੇ ਖੁੱਲੇ ਵਿੱਚ ਮਲ-ਤਿਆਗ ਤੋਂ ਮੁਕਤ (ODF) ਪਲੱਸ ਹੋਣ ਵਜੋਂ ਤਸਦੀਕ ਕੀਤਾ ਗਿਆ ਹੈ?

- Ans
- 1. ਹਿਮਾਚਲ ਪ੍ਰਦੇਸ਼
 - 2. ਉਤਰਾਖੰਡ
 - 3. ਲਕਸ਼ਦੀਪ
 - 4. ਅੰਡਮਾਨ ਅਤੇ ਨਿਕੋਬਾਰ ਟਾਪੂ

Question ID : 630680260812
 Option 1 ID : 6306801013009
 Option 2 ID : 6306801013010
 Option 3 ID : 6306801013008
 Option 4 ID : 6306801013007
 Status : Answered
 Chosen Option : 2
 Marks : 0

Q.3 ਸਮਾਜਿਕ ਨਿਆਂ ਅਤੇ ਸਸ਼ਕਤੀਕਰਨ ਮੰਤਰਾਲੇ ਨੇ _____ ਨੂੰ ਇੱਕ ਵਿਆਪਕ ਮੈਡੀਕਲ ਪੈਕੇਜ ਪ੍ਰਦਾਨ ਕਰਨ ਲਈ ਅਗਸਤ 2022 ਵਿੱਚ ਰਾਸ਼ਟਰੀ ਸਿਹਤ ਅਥਾਰਟੀ ਦੇ ਨਾਲ ਇੱਕ ਸਮਝੌਤਾ ਪੱਤਰ (Memorandum of Understanding) 'ਤੇ ਹਸਤਾਖਰ ਕੀਤੇ।

- Ans
- 1. ਬੱਚੇ
 - 2. ਔਰਤਾਂ
 - 3. ਟ੍ਰਾਂਸਜੈਂਡਰ ਲੋਕ
 - 4. ਅਪੰਗਤਾ ਵਾਲੇ ਲੋਕ

Question ID : 630680270586
 Option 1 ID : 6306801051532
 Option 2 ID : 6306801051531
 Option 3 ID : 6306801051533
 Option 4 ID : 6306801051530
 Status : Answered
 Chosen Option : 3
 Marks : 1

Q.4 ਪੰਜਾਬ ਵਿੱਚ ਕਿਹੜੀ ਸੰਸਥਾ ਉੱਦਮੀਆਂ ਨੂੰ ਉਦਯੋਗਿਕ ਇਕਾਈਆਂ ਸਥਾਪਤ ਕਰਨ ਲਈ ਵਿੱਤੀ ਸਹਾਇਤਾ ਅਤੇ ਸਹਿਯੋਗ ਪ੍ਰਦਾਨ ਕਰਦੀ ਹੈ?

- Ans
- 1. ਪੰਜਾਬ ਰਾਜ ਉਦਯੋਗਿਕ ਵਿਕਾਸ ਨਿਗਮ (ਪੀ.ਐਸ.ਆਈ.ਡੀ.ਸੀ.)
 - 2. ਪੰਜਾਬ ਰਾਜ ਸਹਿਕਾਰੀ ਬੈਂਕ
 - 3. ਵਿੱਤ ਵਿਭਾਗ, ਪੰਜਾਬ
 - 4. ਪੰਜਾਬ ਨੈਸ਼ਨਲ ਬੈਂਕ

Question ID : 630680965632
 Option 1 ID : 6306803787028
 Option 2 ID : 6306803787029
 Option 3 ID : 6306803787030
 Option 4 ID : 6306803787027
 Status : Answered
 Chosen Option : 1
 Marks : 1

Q.5 ASER ਗ੍ਰਾਮੀਣ 2021 ਰਿਪੋਰਟ ਦੇ ਅਨੁਸਾਰ, 2021 ਵਿੱਚ ਸਰਕਾਰੀ ਸਕੂਲਾਂ ਵਿੱਚ ਬੱਚਿਆਂ ਦੇ ਦਾਖਿਲ ਹੋਣ ਦੀ ਦਰ ਕਿੰਨੀ ਹੈ?

- Ans 1. 70.3%
 2. 62.3%
 3. 65.3%
 4. 50.3%

Question ID : 630680266258
 Option 1 ID : 6306801034486
 Option 2 ID : 6306801034484
 Option 3 ID : 6306801034485
 Option 4 ID : 6306801034483
 Status : Answered
 Chosen Option : 3
 Marks : 0

Q.6 ਭਾਰਤ ਦੇ ਸੰਵਿਧਾਨ ਦੇ ਅਨੁਸਾਰ, ਪ੍ਰਧਾਨ ਮੰਤਰੀ ਦੀ ਨਿਯੁਕਤੀ ਰਾਸ਼ਟਰਪਤੀ ਦੁਆਰਾ ਕੀਤੀ ਜਾਂਦੀ ਹੈ, ਪਰ ਨਿਯੁਕਤ ਹੋਏ ਵਿਅਕਤੀ ਨੂੰ _____ ਦਾ ਬਹੁਮਤ ਸਮਰਥਨ ਪ੍ਰਾਪਤ ਹੋਣਾ ਚਾਹੀਦਾ ਹੈ।

- Ans 1. ਰਾਜ ਸਭਾ
 2. ਨਿਆਂਪਾਲਿਕਾ
 3. ਲੋਕ ਸਭਾ
 4. ਰਾਜ ਵਿਧਾਨ ਸਭਾਵਾਂ

Question ID : 630680779527
 Option 1 ID : 6306803055301
 Option 2 ID : 6306803055304
 Option 3 ID : 6306803055302
 Option 4 ID : 6306803055303
 Status : Answered
 Chosen Option : 4
 Marks : 0

Q.7 ਭਾਰਤ ਦੀ ਜਨਗਣਨਾ 2011 ਦੇ ਅਨੁਸਾਰ ਪੰਜਾਬ ਦੇ ਕਿਹੜੇ ਜ਼ਿਲ੍ਹੇ ਦੀ ਆਬਾਦੀ ਸਭ ਤੋਂ ਘੱਟ ਹੈ?

- Ans 1. ਹੁਸ਼ਿਆਰਪੁਰ
 2. ਸ਼੍ਰੀ ਮੁਕਤਸਰ ਸਾਹਿਬ
 3. ਫਰੀਦਕੋਟ
 4. ਬਰਨਾਲਾ

Question ID : 630680965704
 Option 1 ID : 6306803787316
 Option 2 ID : 6306803787318
 Option 3 ID : 6306803787317
 Option 4 ID : 6306803787315
 Status : Answered
 Chosen Option : 3
 Marks : 0

Q.8 ਪੰਜਾਬ ਆਰਥਿਕ ਸਰਵੇਖਣ 2023-24 ਦੇ ਅਨੁਸਾਰ, ਪੰਜਾਬ ਰਾਜ ਦੇ ਕੌਮੀ ਮਾਰਗਾਂ ਦੀ ਕੁੱਲ ਲੰਬਾਈ ਕਿੰਨੀ ਹੈ?

- Ans
- 1. 2239 ਕਿਲੋਮੀਟਰ
 - 2. 4239 ਕਿਲੋਮੀਟਰ
 - 3. 1239 ਕਿਲੋਮੀਟਰ
 - 4. 3239 ਕਿਲੋਮੀਟਰ

Question ID : 630680965700
 Option 1 ID : 6306803787300
 Option 2 ID : 6306803787302
 Option 3 ID : 6306803787299
 Option 4 ID : 6306803787301
 Status : Answered
 Chosen Option : 2
 Marks : 1

Q.9 ਕਿਸ ਸ਼ਹਿਰ ਨੇ ਜਨਵਰੀ 2023 ਵਿੱਚ ਬੱਸਾਂ ਅਤੇ ਮੋਟਰਾਂ 'ਤੇ ਇਲੈਕਟ੍ਰਾਨਿਕ ਤਰੀਕੇ ਨਾਲ ਕਿਰਾਏ ਦਾ ਭੁਗਤਾਨ ਕਰਨ ਲਈ ਇੱਕ ਨਵਾਂ ਮੋਬਿਲਿਟੀ ਕਾਰਡ ਲਾਂਚ ਕਰਨ ਦਾ ਐਲਾਨ ਕੀਤਾ?

- Ans
- 1. ਅਹਿਮਦਾਬਾਦ
 - 2. ਰਾਜਕੋਟ
 - 3. ਮੁੰਬਈ
 - 4. ਦਿੱਲੀ

Question ID : 630680513832
 Option 1 ID : 6306802007954
 Option 2 ID : 6306802007956
 Option 3 ID : 6306802007953
 Option 4 ID : 6306802007955
 Status : Answered
 Chosen Option : 2
 Marks : 0

Q.10 ਹੇਠ ਦਿੱਤਿਆਂ ਵਿੱਚੋਂ ਕਿਸ ਨੂੰ ਕਿਸੇ ਖੇਤਰ ਨੂੰ ਅਨੁਸੂਚਿਤ ਖੇਤਰ ਐਲਾਨਣ ਦਾ ਅਧਿਕਾਰ ਹੈ?

- Ans
- 1. ਰਾਜਪਾਲ
 - 2. ਰਾਸ਼ਟਰਪਤੀ
 - 3. ਪ੍ਰਧਾਨ ਮੰਤਰੀ
 - 4. ਸਰਬ ਉੱਚ ਅਦਾਲਤ

Question ID : 630680326525
 Option 1 ID : 6306801270187
 Option 2 ID : 6306801270185
 Option 3 ID : 6306801270186
 Option 4 ID : 6306801270188
 Status : Answered
 Chosen Option : 4
 Marks : 0

Q.11 ਨਿਮੋਨੀਆ (pneumonia) ਦਾ ਇਲਾਜ ਕਰਨ ਵਿਚ ਸਫਲ ਸਾਬਤ ਹੋਣ ਵਾਲਾ ਰਸਾਇਣਕ ਪਦਾਰਥ ਕਿਹੜਾ ਹੈ?

- Ans
- 1. ਸਲਫਾ ਡਰੱਗ (sulpha drug)
 - 2. ਡੇਰਾਪ੍ਰਿਨ (deraprin)
 - 3. ਐਸਪੀਰੀਨ (aspirin)
 - 4. ਕੁਨੀਨ (quinine)

Question ID : 630680799354
 Option 1 ID : 6306803132241
 Option 2 ID : 6306803132244
 Option 3 ID : 6306803132242
 Option 4 ID : 6306803132243
 Status : Answered
 Chosen Option : 3
 Marks : 0

Q.12 ਪਟਿਆਲਾ ਵਿਖੇ ਮਹਿੰਦਰਾ ਕਾਲਜ ਕਿਹੜੇ ਸਾਲ ਬਣਾਇਆ ਗਿਆ?

- Ans
- 1. 1871
 - 2. 1875
 - 3. 1879
 - 4. 1869

Question ID : 630680965577
 Option 1 ID : 6306803786808
 Option 2 ID : 6306803786809
 Option 3 ID : 6306803786810
 Option 4 ID : 6306803786807
 Status : Answered
 Chosen Option : 4
 Marks : 0

Q.13 ਜੁਲਾਈ 2022 ਵਿੱਚ, ਕਿਹੜੀ ਬਹੁ-ਰਾਸ਼ਟਰੀ ਸਮੂਹ ਕੰਪਨੀ ਅਤੇ ਭਾਰਤੀ ਓਲੰਪਿਕ ਸੰਘ (IOA) ਨੇ ਪੈਰਿਸ ਓਲੰਪਿਕ-2024 ਵਿੱਚ ਪਹਿਲਾ ਇੰਡੀਆ ਹਾਊਸ ਸਥਾਪਤ ਕਰਨ ਲਈ ਸਾਂਝੇਦਾਰੀ ਕੀਤੀ ਸੀ?

- Ans
- 1. ਲਾਰਸਨ ਐਂਡ ਟੂਬਰੋ (Larsen & Toubro)
 - 2. CG ਪਾਵਰ ਐਂਡ ਇੰਡਸਟਰੀਅਲ ਸੋਲੂਸ਼ਨ (CG Power and Industrial Solutions)
 - 3. ਰਿਲਾਇੰਸ ਇੰਡਸਟਰੀਜ਼ (Reliance Industries)
 - 4. ਅਡਾਨੀ ਇੰਟਰਪ੍ਰਾਈਜ਼ਿਜ਼ (Adani Enterprises)

Question ID : 630680327580
 Option 1 ID : 6306801274317
 Option 2 ID : 6306801274320
 Option 3 ID : 6306801274319
 Option 4 ID : 6306801274318
 Status : Answered
 Chosen Option : 3
 Marks : 1

Q.14 ਬਾਪਵਗੜ੍ਹ ਨੈਸ਼ਨਲ ਪਾਰਕ ਭਾਰਤ ਦੇ ਕਿਸ ਰਾਜ ਵਿੱਚ ਸਥਿਤ ਇੱਕ ਪ੍ਰਸਿੱਧ ਜੰਗਲੀ ਜੀਵ ਰਿਜ਼ਰਵ ਹੈ?

- Ans
- 1. ਉੱਤਰ ਪ੍ਰਦੇਸ਼
 - 2. ਬਿਹਾਰ
 - 3. ਮੱਧ ਪ੍ਰਦੇਸ਼
 - 4. ਉੱਤਰਾਖੰਡ

Question ID : 630680760373
 Option 1 ID : 6306802980439
 Option 2 ID : 6306802980440
 Option 3 ID : 6306802980438
 Option 4 ID : 6306802980437
 Status : Answered
 Chosen Option : 1
 Marks : 0

Q.15 ਕਿਹੜੇ ਸੋਧ ਐਕਟ ਨਾਲ ਨਿਰਦੇਸ਼ਕ ਸਿਧਾਂਤਾਂ ਵਿੱਚ ਚਾਰ ਨਵੇਂ ਵਿਸ਼ੇ ਸ਼ਾਮਿਲ ਹੋ ਗਏ ਹਨ?

- Ans
- 1. 45ਵਾਂ ਸੋਧ ਐਕਟ, 1980
 - 2. 42ਵਾਂ ਸੋਧ ਐਕਟ, 1976
 - 3. 43ਵਾਂ ਸੋਧ ਐਕਟ, 1977
 - 4. 44ਵਾਂ ਸੋਧ ਐਕਟ, 1978

Question ID : 630680764325
 Option 1 ID : 6306802995862
 Option 2 ID : 6306802995859
 Option 3 ID : 6306802995860
 Option 4 ID : 6306802995861
 Status : Answered
 Chosen Option : 4
 Marks : 0

Q.16 ਨਵੰਬਰ 2021 ਵਿੱਚ ਕੀਤੇ ਗਏ ਐਲਾਨ ਮੁਤਾਬਿਕ ਭਾਰਤ ਹੇਠ ਲਿਖੇ ਇੰਟਰਨੈਸ਼ਨਲ ਕ੍ਰਿਕਟ ਕੌਂਸਲ (ICC) ਦੇ ਕਿਹੜੇ ਟੂਰਨਾਮੈਂਟ ਦੀ ਮੇਜ਼ਬਾਨੀ ਕਰਨ ਜਾ ਰਿਹਾ ਹੈ?

- Ans
- 1. 2029 ICC ਪੁਰਸ਼ਾਂ ਦੀ ਚੈਂਪੀਅਨਸ਼ਿਪ ਟਰਾਫੀ
 - 2. 2028 ICC ਪੁਰਸ਼ਾਂ ਦਾ T20 ਵਿਸ਼ਵ ਕੱਪ
 - 3. 2025 ICC ਪੁਰਸ਼ਾਂ ਦੀ ਚੈਂਪੀਅਨਸ਼ਿਪ ਟਰਾਫੀ
 - 4. 2024 ICC ਪੁਰਸ਼ਾਂ ਦਾ T20 ਵਿਸ਼ਵ ਕੱਪ

Question ID : 630680514158
 Option 1 ID : 6306802009260
 Option 2 ID : 6306802009259
 Option 3 ID : 6306802009258
 Option 4 ID : 6306802009257
 Status : Answered
 Chosen Option : 1
 Marks : 1

Q.17 ਹੇਠਾਂ ਦਿੱਤੇ ਗਏ ਕਿੱਤਿਆਂ ਵਿੱਚੋਂ ਕਿਹੜਾ ਕਿੱਤਾ ਗੰਨੇ ਦੀ ਕਾਸ਼ਤ ਕਰਨ ਨਾਲ ਸੰਬੰਧਿਤ ਹੈ ਅਤੇ ਪੰਜਾਬ ਦੀ ਆਰਥਿਕਤਾ ਵਿੱਚ ਮਹੱਤਵਪੂਰਨ ਯੋਗਦਾਨ ਪਾਉਂਦਾ ਹੈ?

- Ans
- 1. ਮੱਛੀ ਪਾਲਣ
 - 2. ਖੇਤੀਬਾੜੀ
 - 3. ਫੁੱਲਾਂ ਦੀ ਖੇਤੀ
 - 4. ਰੇਸ਼ਮ ਦੀ ਖੇਤੀ

Question ID : 630680965652
 Option 1 ID : 6306803787109
 Option 2 ID : 6306803787110
 Option 3 ID : 6306803787107
 Option 4 ID : 6306803787108
 Status : Answered
 Chosen Option : 2
 Marks : 1

Q.18 ਪੰਜਾਬ ਵਿੱਚ ਹੇਠ ਲਿਖੇ ਵਿੱਚੋਂ ਕਿਹੜਾ ਨਾਚ ਮੈਰੀਗੇ ਰਾਊਂਡ ਵਾਂਗ ਕੀਤਾ ਜਾਂਦਾ ਹੈ?

- Ans
- 1. ਗਿੱਧਾ
 - 2. ਜੱਲੀ
 - 3. ਭੰਗੜਾ
 - 4. ਕਿਕਲੀ

Question ID : 630680965589
 Option 1 ID : 6306803786858
 Option 2 ID : 6306803786855
 Option 3 ID : 6306803786856
 Option 4 ID : 6306803786857
 Status : Answered
 Chosen Option : 2
 Marks : 0

Q.19 ਹੇਠ ਦਿੱਤਿਆਂ ਵਿੱਚੋਂ ਕਿਹੜਾ ਭਾਰਤ ਵਿੱਚ ਰਾਜਪਾਲ ਦੀਆਂ ਸ਼ਕਤੀਆਂ ਦੇ ਸੰਬੰਧ ਵਿੱਚ ਗਲਤ ਹੈ?

- Ans
- 1. ਉਸ ਨੂੰ ਰਾਜ ਦੀ ਵਿਧਾਨ ਸਭਾ ਨੂੰ ਬੁਲਾਉਣ ਅਤੇ ਮੁਲਤਵੀ ਕਰਨ ਦਾ ਅਧਿਕਾਰ ਹੈ।
 - 2. ਉਹ ਕਿਸੇ ਇੱਕ ਜਾਂ ਦੋਵਾਂ ਸਦਨਾਂ ਨੂੰ ਸੰਦੇਸ਼ ਨਹੀਂ ਭੇਜ ਸਕਦਾ।
 - 3. ਉਹ ਦੋਵੇਂ ਸਦਨਾਂ ਦੇ ਸੰਯੁਕਤ ਸੈਸ਼ਨ ਨੂੰ ਸੰਬੋਧਨ ਕਰ ਸਕਦਾ ਹੈ।
 - 4. ਉਹ ਰਾਜ ਦੀ ਵਿਧਾਨ ਸਭਾ ਭੰਗ ਕਰ ਸਕਦਾ ਹੈ।

Question ID : 630680759907
 Option 1 ID : 6306802978522
 Option 2 ID : 6306802978523
 Option 3 ID : 6306802978525
 Option 4 ID : 6306802978524
 Status : Answered
 Chosen Option : 3
 Marks : 0

Q.20 ਜਹਾਜ਼ੀ ਹਵੇਲੀ ਟੇਡਰ ਮੱਲ ਸਮਾਰਕ _____ ਵਿਖੇ ਸਥਿਤ ਹੈ।

- Ans
- 1. ਤਲਾਨੀਆ
 - 2. ਜੈਤੋ
 - 3. ਸਰਹਿੰਦ
 - 4. ਮੁਦਕੀ

Question ID : 630680965560
 Option 1 ID : 6306803786739
 Option 2 ID : 6306803786742
 Option 3 ID : 6306803786740
 Option 4 ID : 6306803786741
 Status : Answered
 Chosen Option : 1
 Marks : 0

Q.21 ਜਨਵਰੀ 2022 ਵਿੱਚ ਮੇਜਰ ਧਿਆਨ ਚੰਦ ਸਪੋਰਟਸ ਯੂਨੀਵਰਸਿਟੀ ਦੀ ਨੀਂਹ ਕਿਸ ਸ਼ਹਿਰ ਵਿੱਚ ਰੱਖੀ ਗਈ ਸੀ?

- Ans
- 1. ਪਟਿਆਲਾ
 - 2. ਚੰਡੀਗੜ੍ਹ
 - 3. ਮੇਰਠ
 - 4. ਸੋਨੀਪਤ

Question ID : 630680514143
 Option 1 ID : 6306802009199
 Option 2 ID : 6306802009197
 Option 3 ID : 6306802009198
 Option 4 ID : 6306802009200
 Status : Answered
 Chosen Option : 3
 Marks : 1

Q.22 ਹੇਠ ਦਿੱਤਿਆਂ ਵਿੱਚੋਂ ਕਿਹੜਾ ਭਾਰਤ ਵਿੱਚ ਗ੍ਰਾਮ ਪੰਚਾਇਤ ਦਾ ਕੰਮ ਨਹੀਂ ਹੈ?

- Ans
- 1. ਪੀਣ ਵਾਲੇ ਪਾਣੀ ਦੀ ਸਪਲਾਈ
 - 2. ਲੋੜਵੰਦ ਬੱਚਿਆਂ ਲਈ ਵਜ਼ੀਫੇ
 - 3. ਜਨਤਕ ਸੜਕਾਂ ਦੀ ਸਫ਼ਾਈ
 - 4. ਜਨਤਕ ਖੂਰਾਂ ਦਾ ਨਿਰਮਾਣ

Question ID : 630680759980
 Option 1 ID : 6306802978816
 Option 2 ID : 6306802978815
 Option 3 ID : 6306802978814
 Option 4 ID : 6306802978817
 Status : Answered
 Chosen Option : 2
 Marks : 1

Q.23 ਪੰਜਾਬ ਰਾਜ ਦੇ ਇੱਕ ਸਿੱਖ, ਮਨਮੋਹਨ ਸਿੰਘ ਨੇ ਕਿਸ ਸਾਲ ਭਾਰਤ ਦੇ ਪ੍ਰਧਾਨ ਮੰਤਰੀ ਵਜੋਂ ਸਹੁੰ ਚੁੱਕੀ ਸੀ?

- Ans 1. 2004
 2. 2006
 3. 2005
 4. 2003

Question ID : 630680965765
 Option 1 ID : 6306803787560
 Option 2 ID : 6306803787562
 Option 3 ID : 6306803787561
 Option 4 ID : 6306803787559
 Status : Answered
 Chosen Option : 4
 Marks : 0

Q.24 ਕੌਮੀ ਸਨਮਾਨ ਦੇ ਅਪਮਾਨ ਦਾ ਰੋਕਥਾਮ ਐਕਟ _____ ਭਾਰਤ ਦੇ ਸੰਵਿਧਾਨ ਦੇ ਨਿਰਾਦਰ ਨੂੰ ਰੋਕਦਾ ਹੈ।

- Ans 1. 1970
 2. 1973
 3. 1971
 4. 1972

Question ID : 630680594912
 Option 1 ID : 6306802327805
 Option 2 ID : 6306802327808
 Option 3 ID : 6306802327806
 Option 4 ID : 6306802327807
 Status : Answered
 Chosen Option : 3
 Marks : 1

Q.25 ਭਾਰਤੀ ਸੰਵਿਧਾਨ ਦਾ ਅਨੁਛੇਦ 16 ਖਾਸ ਤੌਰ 'ਤੇ _____ ਦੇ ਮਾਮਲਿਆਂ ਵਿੱਚ ਮੌਕਿਆਂ ਦੀ ਸਮਾਨਤਾ ਨੂੰ ਯਕੀਨੀ ਬਣਾਉਂਦਾ ਹੈ।

- Ans 1. ਸਿੱਖਿਆ
 2. ਰੁਜ਼ਗਾਰ
 3. ਸੰਪਤੀ
 4. ਧਰਮ

Question ID : 630680779296
 Option 1 ID : 6306803054410
 Option 2 ID : 6306803054412
 Option 3 ID : 6306803054413
 Option 4 ID : 6306803054411
 Status : Answered
 Chosen Option : 3
 Marks : 0

Q.26 ਹੇਠਾਂ ਦਿੱਤੇ ਵਿੱਚੋਂ ਕਿਸ ਨੇ ਹਾਲ ਹੀ ਵਿੱਚ ਗਲਫੂਡ-2023 (Gulfood-2023) ਵਿੱਚ 'ਇੰਡੀਆ ਪੇਵੇਲੀਅਨ' ਦਾ ਉਦਘਾਟਨ ਕੀਤਾ, ਜੋ ਭੋਜਨ ਉਤਪਾਦਾਂ ਦੇ ਨਿਰਯਾਤ ਲਈ ਦੁਨੀਆ ਦੀਆਂ ਸਭ ਤੋਂ ਵੱਡੀਆਂ ਪ੍ਰਦਰਸ਼ਨੀਆਂ ਵਿੱਚੋਂ ਇੱਕ ਹੈ?

- Ans
- 1. ਨਰਿੰਦਰ ਸਿੰਘ ਤੇਮਰ
 - 2. ਪ੍ਰਹਿਲਾਦ ਸਿੰਘ ਪਟੇਲ
 - 3. ਅਸ਼ਵਨੀ ਕੁਮਾਰ ਚੌਥੇ
 - 4. ਪਸੂਪਤੀ ਕੁਮਾਰ ਪਾਰਸ

Question ID : 630680309003
 Option 1 ID : 6306801202192
 Option 2 ID : 6306801202190
 Option 3 ID : 6306801202191
 Option 4 ID : 6306801202189
 Status : Answered
 Chosen Option : 2
 Marks : 0

Q.27 ਸੰਯੁਕਤ ਰਾਸ਼ਟਰ ਦੀ ਇੱਕ ਰਿਪੋਰਟ/ਅੰਕੜਿਆਂ ਮੁਤਾਬਿਕ ਭਾਰਤ ਦੁਆਰਾ ਕਿਸ ਸਾਲ ਤੱਕ ਦੁਨੀਆ ਦੇ ਸਭ ਤੋਂ ਵੱਧ ਆਬਾਦੀ ਵਾਲੇ ਦੇਸ਼ ਵਜੋਂ ਚੀਨ ਨੂੰ ਪਿੱਛੇ ਛੱਡਣ ਦਾ ਅਨੁਮਾਨ ਹੈ?

- Ans
- 1. 2023
 - 2. 2024
 - 3. 2025
 - 4. 2026

Question ID : 630680325594
 Option 1 ID : 6306801266713
 Option 2 ID : 6306801266714
 Option 3 ID : 6306801266715
 Option 4 ID : 6306801266716
 Status : Answered
 Chosen Option : 1
 Marks : 1

Q.28 ਭਾਰਤ ਵਿੱਚ ਗ੍ਰਾਮ ਸਭਾ ਦੀ ਕਾਰਜਕਾਰੀ ਕਮੇਟੀ ਹੇਠ ਦਿੱਤਿਆਂ ਵਿੱਚੋਂ ਕਿਹੜੀ ਹੈ?

- Ans
- 1. ਜ਼ਿਲ੍ਹਾ ਪੰਚਾਇਤ
 - 2. ਨਿਆਂ ਪੰਚਾਇਤ
 - 3. ਗ੍ਰਾਮ ਪੰਚਾਇਤ
 - 4. ਪੰਚਾਇਤ ਸਮਿਤੀ

Question ID : 630680759990
 Option 1 ID : 6306802978861
 Option 2 ID : 6306802978859
 Option 3 ID : 6306802978858
 Option 4 ID : 6306802978860
 Status : Answered
 Chosen Option : 3
 Marks : 1

Q.29 ਦੇ ਜਾਂ ਦੇ ਤੋਂ ਵੱਧ ਰਾਜਾਂ ਵਿਚਕਾਰ ਵਿਵਾਦ ਸਰਬ ਉੱਚ ਅਦਾਲਤ ਦੇ ਕਿਸ ਅਧਿਕਾਰ ਖੇਤਰ ਅਧੀਨ ਹੋਵੇਗਾ?

- Ans
- 1. ਅਪੀਲੀ ਅਧਿਕਾਰਤਾ
 - 2. ਰਿਟ ਅਧਿਕਾਰਤਾ
 - 3. ਸਲਾਹਕਾਰ ਅਧਿਕਾਰਤਾ
 - 4. ਮੂਲ ਅਧਿਕਾਰਤਾ

Question ID : 630680770808
 Option 1 ID : 6306803021133
 Option 2 ID : 6306803021136
 Option 3 ID : 6306803021135
 Option 4 ID : 6306803021134
 Status : Answered
 Chosen Option : 2
 Marks : 0

Q.30 _____ ਪ੍ਰਦਾਨ ਕਰਦਾ ਹੈ ਕਿ ਨਗਰ ਪਾਲਿਕਾ ਦੀਆਂ ਸਾਰੀਆਂ ਸੀਟਾਂ ਨਗਰ ਪਾਲਿਕਾ ਖੇਤਰ ਦੇ ਪ੍ਰਦੇਸ਼ਕ ਚੋਣ ਖੇਤਰਾਂ ਤੋਂ ਸਿੱਧੀ ਚੋਣ ਦੁਆਰਾ ਚੁਣੇ ਗਏ ਵਿਅਕਤੀਆਂ ਦੁਆਰਾ ਭਰੀਆਂ ਜਾਣਗੀਆਂ।

- Ans
- 1. ਅਨੁਛੇਦ 243-R
 - 2. ਅਨੁਛੇਦ 280-A
 - 3. ਅਨੁਛੇਦ 243-G
 - 4. ਅਨੁਛੇਦ 275-G

Question ID : 630680729829
 Option 1 ID : 6306802859951
 Option 2 ID : 6306802859953
 Option 3 ID : 6306802859952
 Option 4 ID : 6306802859954
 Status : Answered
 Chosen Option : 3
 Marks : 0

Q.31 ਭਾਰਤੀ ਸੰਵਿਧਾਨ ਦੇ ਪੰਜਵੇਂ ਖੰਡ ਦੇ ਉਪਵਾਕ 5 (1) ਦੇ ਤਹਿਤ ਹੇਠਾਂ ਦਿੱਤੇ ਵਿੱਚੋਂ ਕਿਸ ਨੂੰ ਇਹ ਨਿਰਦੇਸ਼ ਦੇਣ ਦਾ ਅਧਿਕਾਰ ਹੈ ਕਿ ਸੰਸਦ ਜਾਂ ਰਾਜ ਵਿਧਾਨ ਸਭਾ ਦਾ ਕੋਈ ਵਿਸ਼ੇਸ਼ ਐਕਟ ਕਿਸੇ ਅਨੁਸੂਚਿਤ ਖੇਤਰ 'ਤੇ ਲਾਗੂ ਨਹੀਂ ਹੁੰਦਾ ਜਾਂ ਵਿਸ਼ੇਸ਼ ਸੇਧਾਂ ਅਤੇ ਅਪਵਾਦਾਂ ਨਾਲ ਲਾਗੂ ਹੁੰਦਾ ਹੈ?

- Ans
- 1. ਰਾਸ਼ਟਰਪਤੀ
 - 2. ਰਾਜਪਾਲ
 - 3. ਉੱਚ ਅਦਾਲਤ
 - 4. ਪ੍ਰਧਾਨ ਮੰਤਰੀ

Question ID : 630680326526
 Option 1 ID : 6306801270189
 Option 2 ID : 6306801270191
 Option 3 ID : 6306801270192
 Option 4 ID : 6306801270190
 Status : Answered
 Chosen Option : 3
 Marks : 0

Q.32 31 ਜਨਵਰੀ, 2022 ਨੂੰ ਹੇਠ ਲਿਖਿਆਂ ਵਿੱਚੋਂ ਕੌਣ ਸਾਲ 2021 ਦਾ ਵਰਲਡ ਗੇਮਜ਼ ਏਥਲੀਟ ਆਫ ਦਾ ਈਅਰ ਜਿੱਤਣ ਵਾਲਾ ਪਹਿਲਾ ਭਾਰਤੀ ਪੁਰਸ਼ ਅਥਲੀਟ ਅਤੇ ਕੁੱਲ ਦੂਸਰਾ ਭਾਰਤੀ ਖਿਡਾਰੀ ਬਣਿਆ?

- Ans
- 1. ਵਰੁਣ ਕੁਮਾਰ
 - 2. ਮਨਪ੍ਰੀਤ ਸਿੰਘ
 - 3. ਦੀਪਸਨ ਟਿਰਕੀ
 - 4. ਪੀ ਆਰ ਸ਼੍ਰੀਜੇਸ਼

Question ID : 630680514103
 Option 1 ID : 6306802009040
 Option 2 ID : 6306802009038
 Option 3 ID : 6306802009039
 Option 4 ID : 6306802009037
 Status : Answered
 Chosen Option : 3
 Marks : 0

Q.33 ਪ੍ਰਧਾਨ ਮੰਤਰੀ ਇੰਦਰਾ ਗਾਂਧੀ ਨੇ ਪੰਜਾਬ ਅਤੇ ਪਾਕਿਸਤਾਨ ਦੀ ਸਰਹੱਦ ਨੂੰ ਬੰਦ ਕਰਨ ਦਾ ਹੁਕਮ ਕੌਂ ਦਿੱਤਾ ਸੀ?

- Ans
- 1. ਅਕਤੂਬਰ 16, 1983
 - 2. ਅਕਤੂਬਰ 16, 1986
 - 3. ਅਕਤੂਬਰ 16, 1984
 - 4. ਅਕਤੂਬਰ 16, 1985

Question ID : 630680965744
 Option 1 ID : 6306803787475
 Option 2 ID : 6306803787478
 Option 3 ID : 6306803787476
 Option 4 ID : 6306803787477
 Status : Answered
 Chosen Option : 3
 Marks : 1

Q.34 ਸੰਵਿਧਾਨ ਦੇ ਕਿਸ ਅਨੁਛੇਦ ਵਿੱਚ ਦੋਹਰੀ ਰਾਜਨੀਤੀ (dual polity) ਦਾ ਵਰਨਣ ਕੀਤਾ ਗਿਆ ਹੈ?

- Ans
- 1. ਅਨੁਛੇਦ 2
 - 2. ਅਨੁਛੇਦ 1
 - 3. ਅਨੁਛੇਦ 3
 - 4. ਅਨੁਛੇਦ 4

Question ID : 630680764363
 Option 1 ID : 6306802995992
 Option 2 ID : 6306802995991
 Option 3 ID : 6306802995993
 Option 4 ID : 6306802995994
 Status : Answered
 Chosen Option : 3
 Marks : 0

Q.35 2022 ਵਿੱਚ ਜਾਰੀ ਕੀਤੇ ਗਏ ਰਾਸ਼ਟਰੀ ਪਰਿਵਾਰ ਸਿਹਤ ਸਰਵੇਖਣ ਜਾਂ NFHS-5 ਦੇ ਅਨੁਸਾਰ, ਭਾਰਤ ਦੀ ਕੁੱਲ ਜਣਨ ਦਰ ਕਿੰਨੀ ਹੈ?

- Ans
- 1. 3.1
 - 2. 2.8
 - 3. 2.0
 - 4. 2.9

Question ID : 630680304927
 Option 1 ID : 6306801186257
 Option 2 ID : 6306801186258
 Option 3 ID : 6306801186259
 Option 4 ID : 6306801186260
 Status : Answered
 Chosen Option : 2
 Marks : 0

Section : Quantitative Aptitude and Numerical Skills

Q.36 ਹੇਠਾਂ ਦਿੱਤੇ ਦਾ ਮੁੱਲ ਪਤਾ ਕਰੋ।

$$\frac{1}{6} + \frac{2}{6} + \frac{1}{12} + \frac{2}{6} - 2 =$$

- Ans
- 1. $-\frac{8}{12}$
 - 2. $-\frac{17}{12}$
 - 3. $-\frac{13}{12}$
 - 4. $-\frac{15}{12}$

Question ID : 630680762085
 Option 1 ID : 6306802986982
 Option 2 ID : 6306802986981
 Option 3 ID : 6306802986980
 Option 4 ID : 6306802986983
 Status : Answered
 Chosen Option : 3
 Marks : 1

Q.37 ਅਤੁਲ ਦੀ ਤਨਖਾਹ ਵਿੱਚ ਪਹਿਲਾਂ 24% ਦੀ ਕਟੌਤੀ ਕੀਤੀ ਗਈ ਅਤੇ ਬਾਅਦ ਵਿੱਚ 28% ਦਾ ਵਾਧਾ ਕੀਤਾ ਗਿਆ। ਉਸਦੀ ਅੰਤਮ ਤਨਖਾਹ ਉਸਦੀ ਸ਼ੁਰੂਆਤੀ ਤਨਖਾਹ ਨਾਲੋਂ ਕਿੰਨੇ ਪ੍ਰਤੀਸ਼ਤ ਘੱਟ ਸੀ?

- Ans
- 1. 24
 - 2. 28
 - 3. 6.72
 - 4. 2.72

Question ID : 630680667528
 Option 1 ID : 6306802613674
 Option 2 ID : 6306802613675
 Option 3 ID : 6306802613673
 Option 4 ID : 6306802613672
 Status : Answered
 Chosen Option : 3
 Marks : 0

Q.38 ਇੱਕ ਵਿਅਕਤੀ ਆਪਣੀ ਮਹੀਨਾਵਾਰ ਆਮਦਨ ਦਾ 10% ਬਚਾਉਂਦਾ ਹੈ। ਜੇਕਰ ਉਸਦੀ ਮਹੀਨਾਵਾਰ ਆਮਦਨ 20% ਵਧ ਜਾਂਦੀ ਹੈ, ਤਾਂ ਉਹ ਪਿਛਲੀ ਬੱਚਤ ਨਾਲੋਂ 20% ਵੱਧ ਬਚਾਉਂਦਾ ਹੈ। ਉਸਦੇ ਖਰਚੇ ਵਿੱਚ ਪ੍ਰਤੀਸ਼ਤ ਵਾਧਾ ___ ਹੈ।

- Ans
- 1. 16
 - 2. 20
 - 3. 24
 - 4. 28

Question ID : 630680762310
 Option 1 ID : 6306802987906
 Option 2 ID : 6306802987904
 Option 3 ID : 6306802987905
 Option 4 ID : 6306802987907
 Status : Answered
 Chosen Option : 1
 Marks : 0

Q.39 $\frac{8}{30}$ ਦਾ ਕਿੰਨਾ ਪ੍ਰਤੀਸ਼ਤ $\frac{1}{20}$ ਹੈ?

- Ans
- 1. 37.5
 - 2. 28.75
 - 3. 18.75
 - 4. 33.75

Question ID : 630680668337
 Option 1 ID : 6306802616893
 Option 2 ID : 6306802616895
 Option 3 ID : 6306802616892
 Option 4 ID : 6306802616894
 Status : Answered
 Chosen Option : 3
 Marks : 1

Q.40 65 ਦਾ 60%, 45 ਦੇ $\frac{2}{5}$ ਤੋਂ ਕਿੰਨਾ ਵੱਧ ਹੈ?

- Ans
- 1. 21
 - 2. 18
 - 3. 15
 - 4. 19

Question ID : 630680668187
 Option 1 ID : 6306802616292
 Option 2 ID : 6306802616293
 Option 3 ID : 6306802616294
 Option 4 ID : 6306802616295
 Status : Answered
 Chosen Option : 2
 Marks : 0

Q.41 ਬਾਲ ਦਿਹਾੜੇ ਦੇ ਮੌਕੇ 'ਤੇ, ਇੱਕ ਕੰਪਨੀ ਗਾਹਕਾਂ ਨੂੰ '5 ਚਾਕਲੇਟ ਖਰੀਦੋ ਅਤੇ 6 ਮੁਫਤ ਪਾਓ' ਦਾ ਆਫਰ ਦਿੰਦੀ ਹੈ। ਇਸ ਸੌਦੇ ਵਿੱਚ ਦਿੱਤੀ ਜਾਣ ਵਾਲੀ ਫੋਟ ਦੀ ਪ੍ਰਤੀਸ਼ਤ ਕਿੰਨੀ ਹੈ?

- Ans
- 1. 40%
 - 2. $66\frac{2}{3}\%$
 - 3. $54\frac{6}{11}\%$
 - 4. 20%

Question ID : 630680764004
 Option 1 ID : 6306802994542
 Option 2 ID : 6306802994540
 Option 3 ID : 6306802994539
 Option 4 ID : 6306802994541
 Status : Answered
 Chosen Option : 3
 Marks : 1

Q.42 ਜੇਕਰ $25 \times 3 \times 714 \div \sqrt{2601} = y + 642$ ਹੈ, ਤਾਂ y ਦਾ ਮੁੱਲ ਪਤਾ ਕਰੋ।

- Ans
- 1. 410
 - 2. 408
 - 3. 402
 - 4. 418

Question ID : 630680677286
 Option 1 ID : 6306802652601
 Option 2 ID : 6306802652599
 Option 3 ID : 6306802652602
 Option 4 ID : 6306802652600
 Status : Answered
 Chosen Option : 4
 Marks : 0

Q.43 ਇੱਕ ਕ੍ਰਿਕੇਟ ਖਿਡਾਰੀ ਦੀ 35 ਪਾਰੀਆਂ ਵਿੱਚ ਬੱਲੇਬਾਜ਼ੀ ਦੀ ਔਸਤ 40 ਦੌੜਾਂ ਹਨ। ਇਹਨਾਂ ਪਾਰੀਆਂ ਵਿੱਚ ਉਸਦਾ ਸਭ ਤੋਂ ਜ਼ਿਆਦਾ ਸਕੋਰ ਉਸਦੇ ਸਭ ਤੋਂ ਘੱਟ ਸਕੋਰ ਤੋਂ 143 ਜ਼ਿਆਦਾ ਹੈ। ਜੇਕਰ ਇਹਨਾਂ ਦੋਵੇਂ ਪਾਰੀਆਂ ਨੂੰ ਸ਼ਾਮਲ ਨਾ ਕੀਤਾ ਜਾਵੇ ਤਾਂ ਬਾਕੀ 33 ਪਾਰੀਆਂ ਦਾ ਔਸਤ ਸਕੋਰ 37 ਦੌੜਾਂ ਹੈ। ਇਹਨਾਂ 33 ਪਾਰੀਆਂ ਦਾ ਸਭ ਤੋਂ ਜ਼ਿਆਦਾ ਸਕੋਰ ਪਤਾ ਕਰੋ।

- Ans
- 1. 174
 - 2. 152
 - 3. 161
 - 4. 145

Question ID : 630680207798

Option 1 ID : 630680805423

Option 2 ID : 630680805424

Option 3 ID : 630680805425

Option 4 ID : 630680805426

Status : Answered

Chosen Option : 2

Marks : 0

Q.44 ਸਰਲ ਕਰੋ

$$\left\{ \left(\frac{13}{30} \right) \div \left(\frac{13}{10} \right) \right\} \div \left(\frac{3}{5} \times \frac{10}{9} + \frac{4}{10} \right) + \frac{10}{9} \div \frac{32}{21} \text{ of } \frac{21}{9}$$

- Ans
- 1. $\frac{24}{29}$
 - 2. $\frac{23}{35}$
 - 3. $\frac{28}{36}$
 - 4. $\frac{20}{32}$

Question ID : 630680704699

Option 1 ID : 6306802760485

Option 2 ID : 6306802760483

Option 3 ID : 6306802760484

Option 4 ID : 6306802760482

Status : Answered

Chosen Option : 3

Marks : 0

Q.45 ਇੱਕ ਦੁਕਾਨਦਾਰ ਇੱਕ ਵਸਤੂ ਦੀ ਕੀਮਤ ₹x ਚਿੰਨ੍ਹਿਤ ਕਰਦਾ ਹੈ ਅਤੇ ਇਸ 'ਤੇ 38% ਦੀ ਛੋਟ ਦਿੰਦਾ ਹੈ। ਉਹ ਛੂਟ ਵਾਲੀ ਕੀਮਤ 'ਤੇ 60% ਵੈਟ ਵਸੂਲਣ ਤੋਂ ਬਾਅਦ ਇਸਨੂੰ ₹372 ਵਿੱਚ ਵੇਚਦਾ ਹੈ। ₹x ਦਾ ਮੁੱਲ ਕੀ ਹੈ?

- Ans
- 1. ₹400
 - 2. ₹500
 - 3. ₹200
 - 4. ₹375

Question ID : 630680844508
 Option 1 ID : 6306803307960
 Option 2 ID : 6306803307961
 Option 3 ID : 6306803307959
 Option 4 ID : 6306803307958
 Status : Answered
 Chosen Option : 3
 Marks : 0

Q.46 10 ਫਰਵਰੀ 2024 ਤੋਂ 11 ਅਪ੍ਰੈਲ 2024 ਦੀ ਮਿਆਦ ਲਈ 7% ਸਲਾਨਾ ਵਿਆਜ ਦਰ ਨਾਲ ₹3000 'ਤੇ ਪ੍ਰਾਪਤ ਹੋਣ ਵਾਲਾ ਸਧਾਰਨ ਵਿਆਜ (ਨਜ਼ਦੀਕੀ ₹ ਵਿੱਚ) ਪਤਾ ਕਰੋ।

- Ans
- 1. 34
 - 2. 33
 - 3. 36
 - 4. 35

Question ID : 630680666093
 Option 1 ID : 6306802607933
 Option 2 ID : 6306802607935
 Option 3 ID : 6306802607934
 Option 4 ID : 6306802607932
 Status : Answered
 Chosen Option : 3
 Marks : 0

Q.47 7 ਸੰਖਿਆਵਾਂ ਦੀ ਔਸਤ 47 ਹੈ। ਜੇਕਰ ਹਰੇਕ ਸੰਖਿਆ ਵਿੱਚ 6 ਵਧਾ ਦਿੱਤਾ ਜਾਵੇ, ਨਵੀਂ ਔਸਤ ਕੀ ਹੋਵੇਗੀ?

- Ans
- 1. 7
 - 2. 47
 - 3. 59
 - 4. 53

Question ID : 630680656754
 Option 1 ID : 6306802570961
 Option 2 ID : 6306802570959
 Option 3 ID : 6306802570960
 Option 4 ID : 6306802570958
 Status : Answered
 Chosen Option : 3
 Marks : 0

Q.48 ਜੇਕਰ ਕੋਈ ਦੁੱਧ ਵਾਲਾ 9 ਲ ਦੁੱਧ ਵਿੱਚ 4 ਲ ਪਾਣੀ ਮਿਲਾਉਂਦਾ ਹੈ, ਤਾਂ ਦੁੱਧ ਅਤੇ ਪਾਣੀ ਦੇ ਅਨੁਪਾਤ ਨੂੰ ਪਹਿਲਾਂ ਵਾਲਾ ਬਣਾਏ ਰੱਖਣ ਲਈ ਉਸਨੂੰ 36 ਲ ਦੁੱਧ ਵਿੱਚ ਪਾਣੀ ਦੀ ਕਿੰਨੀ ਮਾਤਰਾ ਮਿਲਾਉਣੀ ਚਾਹੀਦੀ ਹੈ?

- Ans
- 1. 14 ਲ
 - 2. 12 ਲ
 - 3. 10 ਲ
 - 4. 16 ਲ

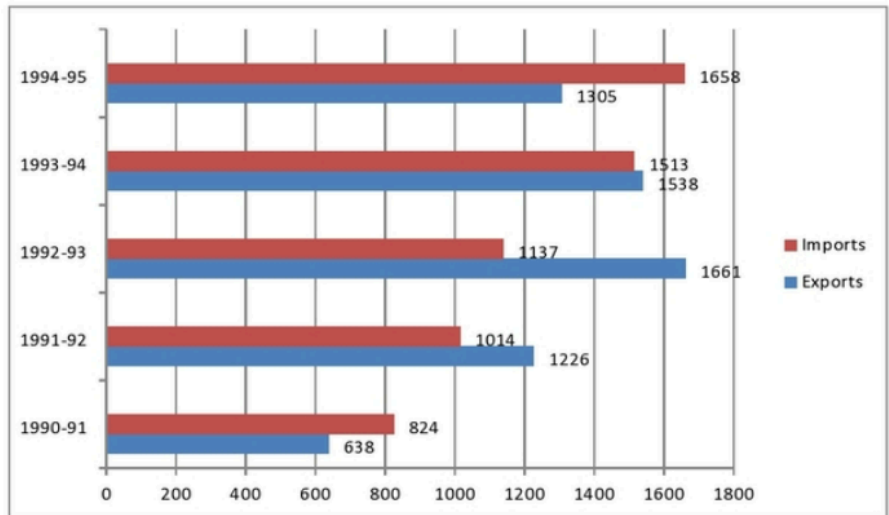
Question ID : 630680768920
 Option 1 ID : 6306803013657
 Option 2 ID : 6306803013658
 Option 3 ID : 6306803013659
 Option 4 ID : 6306803013656
 Status : Answered
 Chosen Option : 2
 Marks : 0

Q.49 $\frac{(4^3 \times 5^4 \times 3^5)}{(4^1 \times 5^1 \times 3^1)}$ ਸਰਲ ਕਰੋ:

- Ans
- 1. 162040
 - 2. 162010
 - 3. 162000
 - 4. 161990

Question ID : 630680762053
 Option 1 ID : 6306802986918
 Option 2 ID : 6306802986917
 Option 3 ID : 6306802986916
 Option 4 ID : 6306802986919
 Status : Answered
 Chosen Option : 3
 Marks : 1

Q.50 1990-91 ਤੋਂ 1994-95 ਦੇ ਦੌਰਾਨ ਇੱਕ ਦੇਸ਼ ਦੇ ਆਯਾਤ ਅਤੇ ਨਿਰਯਾਤ (ਕਰੋੜਾਂ ਵਿੱਚ ਰੁਪਏ) ਨੂੰ ਬਾਰ ਗ੍ਰਾਫ ਵਿੱਚ ਪੇਸ਼ ਕੀਤਾ ਗਿਆ ਹੈ।
1990-1995 ਤੱਕ ਔਸਤ ਸਾਲਾਨਾ ਨਿਰਯਾਤ (ਕਰੋੜਾਂ ਰੁਪਇਆ ਵਿੱਚ) ਦਾ ਪਤਾ ਲਗਾਓ।



ਸੰਦਰਭ: ਆਯਾਤ (Imports), ਨਿਰਯਾਤ (Exports)

- Ans
- 1. 1283.6
 - 2. 1273.6
 - 3. 1263.6
 - 4. 1253.6

Question ID : 630680555845
 Option 1 ID : 6306802172819
 Option 2 ID : 6306802172817
 Option 3 ID : 6306802172816
 Option 4 ID : 6306802172818
 Status : Answered
 Chosen Option : 2
 Marks : 1

Q.51 ਰਾਮ, ਬਲਰਾਮ ਅਤੇ ਸ਼ਿਆਮ ਦੀਆਂ ਤਨਖਾਹਾਂ 3: 6: 5 ਦੇ ਅਨੁਪਾਤ ਵਿੱਚ ਹਨ। ਜੇਕਰ ਉਨ੍ਹਾਂ ਦੀਆਂ ਤਨਖਾਹਾਂ ਵਿੱਚ ਕ੍ਰਮਵਾਰ $33\frac{1}{2}\%$, $16\frac{2}{3}\%$ ਅਤੇ 20% ਦਾ ਵਾਧਾ ਹੁੰਦਾ ਹੈ ਤਾਂ ਉਨ੍ਹਾਂ ਦੀਆਂ ਵਧੀਆਂ ਹੋਈਆਂ ਤਨਖਾਹਾਂ ਦਾ ਅਨੁਪਾਤ ਪਤਾ ਕਰੋ।

- Ans
- 1. 7: 9: 6
 - 2. 6: 9: 7
 - 3. 4: 7: 6
 - 4. 6: 7: 4

Question ID : 630680764395
 Option 1 ID : 6306802996121
 Option 2 ID : 6306802996122
 Option 3 ID : 6306802996119
 Option 4 ID : 6306802996120
 Status : Answered
 Chosen Option : 1
 Marks : 0

Q.52 A ਅਤੇ B ਕਿਸੇ ਕੰਮ ਨੂੰ 12 ਦਿਨਾਂ ਵਿੱਚ ਕਰ ਸਕਦੇ ਹਨ। A ਅਤੇ C 15 ਦਿਨਾਂ ਵਿੱਚ ਕਰ ਸਕਦੇ ਹਨ। ਜੇਕਰ ਤਿੰਨੋਂ ਮਿਲ ਕੇ ਕੰਮ 10 ਦਿਨਾਂ ਵਿੱਚ ਕਰ ਸਕਦੇ ਹਨ, ਤਾਂ B ਅਤੇ C ਕਿੰਨੇ ਦਿਨਾਂ ਵਿੱਚ ਕੰਮ ਪੂਰਾ ਕਰਨਗੇ?

- Ans
- 1. 15
 - 2. 12
 - 3. 20
 - 4. 18

Question ID : 630680779496
 Option 1 ID : 6306803055182
 Option 2 ID : 6306803055181
 Option 3 ID : 6306803055183
 Option 4 ID : 6306803055184
 Status : Answered
 Chosen Option : 3
 Marks : 1

Q.53 ਰੇਡਨੀ ਕਿਸੇ ਕੰਮ ਨੂੰ 8 ਘੰਟਿਆਂ ਵਿੱਚ ਕਰ ਸਕਦਾ ਹੈ। ਅਮਿਤ ਇਸਨੂੰ 16 ਘੰਟਿਆਂ ਵਿੱਚ ਕਰ ਸਕਦਾ ਹੈ। ਗੋਪਾਲ ਦੀ ਸਹਾਇਤਾ ਨਾਲ, ਉਹ ਕੰਮ ਨੂੰ 4 ਘੰਟਿਆਂ ਵਿੱਚ ਪੂਰਾ ਕਰਦੇ ਹਨ। ਗੋਪਾਲ ਇਕੱਲਾ ਇਸੇ ਕੰਮ ਤੋਂ ਤਿੰਗਣਾ ਕੰਮ ਕਿੰਨੇ ਘੰਟਿਆਂ ਵਿੱਚ ਕਰ ਸਕਦਾ ਹੈ?

- Ans
- 1. 47
 - 2. 49
 - 3. 50
 - 4. 48

Question ID : 630680689449
 Option 1 ID : 6306802700453
 Option 2 ID : 6306802700454
 Option 3 ID : 6306802700455
 Option 4 ID : 6306802700452
 Status : Answered
 Chosen Option : 4
 Marks : 1

Q.54 ਇੱਕ ਆਦਮੀ ਨੇ ਇੱਕ ਸਵੈਟਰ ਨੂੰ 10% ਹਾਨੀ ਨਾਲ ₹900 ਵਿੱਚ ਵੇਚਿਆ। ਨਾਲ ਹੀ ਉਸਨੇ ਇੱਕ ਟ੍ਰਾਊਜ਼ਰ ਨੂੰ 25% ਲਾਭ ਨਾਲ ₹760 ਵਿੱਚ ਵੇਚਿਆ। ਉਸਦਾ ਸ਼ੁੱਧ ਲਾਭ (₹ ਵਿੱਚ) ਪਤਾ ਕਰੋ।

- Ans
- 1. 52
 - 2. 57
 - 3. 67
 - 4. 47

Question ID : 630680632759
 Option 1 ID : 6306802476934
 Option 2 ID : 6306802476936
 Option 3 ID : 6306802476937
 Option 4 ID : 6306802476935
 Status : Answered
 Chosen Option : 4
 Marks : 0

Q.55 0.25 ਅਤੇ 0.64 ਦਾ ਮੱਧ ਸਮਾਨੁਪਾਤ ਕਿੰਨਾ ਹੋਵੇਗਾ?

- Ans
- 1. 0.5
 - 2. 0.7
 - 3. 0.4
 - 4. 0.6

Question ID : 630680764509
Option 1 ID : 6306802996575
Option 2 ID : 6306802996577
Option 3 ID : 6306802996574
Option 4 ID : 6306802996576
Status : Answered
Chosen Option : 2
Marks : 0

Section : Mental Ability & Logical Reasoning

Q.56 ਅੰਗਰੇਜ਼ੀ ਵਰਣਮਾਲਾ ਦੇ ਆਧਾਰ 'ਤੇ ਦਿੱਤੀ ਗਈ ਲੜੀ ਵਿੱਚ ਪ੍ਰਸ਼ਨ ਚਿੰਨ੍ਹ (?) ਦੀ ਥਾਂ 'ਤੇ ਕੀ ਆਉਣਾ ਚਾਹੀਦਾ ਹੈ?

RTW, UWZ, XZC, ACF, DFI, ?

- Ans
- 1. GIL
 - 2. FJL
 - 3. GJL
 - 4. GIM

Question ID : 630680395297
Option 1 ID : 6306801541394
Option 2 ID : 6306801541392
Option 3 ID : 6306801541393
Option 4 ID : 6306801541395
Status : Answered
Chosen Option : 1
Marks : 1

Q.57 ਦਿੱਤੇ ਗਏ ਕਥਨਾਂ ਅਤੇ ਸਿੱਟਿਆਂ ਨੂੰ ਧਿਆਨ ਨਾਲ ਪੜ੍ਹੋ। ਕਥਨਾਂ ਵਿੱਚ ਦਿੱਤੀ ਗਈ ਜਾਣਕਾਰੀ ਨੂੰ ਸਹੀ ਮੰਨੋ, ਭਾਵੇਂ ਇਹ ਆਮ ਤੌਰ 'ਤੇ ਜਾਣੇ ਜਾਂਦੇ ਤੱਥਾਂ ਤੋਂ ਭਿੰਨ ਜਾਪਦੀ ਹੋਵੇ ਅਤੇ ਇਹ ਫੈਸਲਾ ਕਰੋ ਕਿ ਦਿੱਤੇ ਗਏ ਸਿੱਟਿਆਂ ਵਿੱਚੋਂ ਕਿਹੜਾ/ਕਿਹੜੇ ਕਥਨਾਂ ਦੀ ਤਰਕਸੰਗਤ ਪਾਲਣਾ ਕਰਦਾ ਹੈ/ਕਰਦੇ ਹਨ।

ਕਥਨ:

- (I) ਸਾਰੀਆਂ ਬਾਈਕਾਂ, ਕਾਰਾਂ ਹਨ।
(II) ਸਾਰੀਆਂ ਕਾਰਾਂ, ਹਵਾਈ-ਜਹਾਜ਼ ਹਨ।

ਸਿੱਟਾ:

- (I) ਸਾਰੀਆਂ ਬਾਈਕਾਂ, ਹਵਾਈ-ਜਹਾਜ਼ ਹਨ।
(II) ਕੁਝ ਹਵਾਈ-ਜਹਾਜ਼, ਕਾਰਾਂ ਹਨ।

- Ans 1. ਸਿਰਫ ਸਿੱਟਾ (I) ਪਾਲਣਾ ਕਰਦਾ ਹੈ।
 2. ਦੋਵੇਂ ਸਿੱਟੇ (I) ਅਤੇ (II) ਪਾਲਣਾ ਕਰਦੇ ਹਨ।
 3. ਸਿਰਫ ਸਿੱਟਾ (II) ਪਾਲਣਾ ਕਰਦਾ ਹੈ।
 4. ਨਾ ਤਾਂ ਸਿੱਟਾ (I) ਅਤੇ ਨਾ ਹੀ (II) ਪਾਲਣਾ ਕਰਦਾ ਹੈ।

Question ID : 630680277086
Option 1 ID : 6306801076837
Option 2 ID : 6306801076840
Option 3 ID : 6306801076838
Option 4 ID : 6306801076839
Status : Answered
Chosen Option : 3
Marks : 0

Q.58 ਅਮਿਤਾ ਆਪਣੀ ਜਮਾਤ ਵਿੱਚ ਉੱਪਰੋਂ 19ਵੇਂ ਅਤੇ ਹੇਠਾਂ ਤੋਂ 26ਵੇਂ ਸਥਾਨ 'ਤੇ ਹੈ। ਜਮਾਤ ਵਿੱਚ ਕਿੰਨੇ ਵਿਦਿਆਰਥੀ ਹਨ?

- Ans 1. 44
 2. 45
 3. 42
 4. 43

Question ID : 630680373496
Option 1 ID : 6306801455257
Option 2 ID : 6306801455258
Option 3 ID : 6306801455255
Option 4 ID : 6306801455256
Status : Answered
Chosen Option : 3
Marks : 0

Q.59 ਇੱਕ ਖਾਸ ਕੋਡ ਭਾਸ਼ਾ ਵਿੱਚ,

$A + B$ ਦਾ ਅਰਥ ਹੈ ਕਿ 'A, B ਦਾ ਪਿਤਾ ਹੈ',

$A - B$ ਦਾ ਅਰਥ ਹੈ ਕਿ 'A, B ਦਾ ਭਰਾ ਹੈ',

$A \times B$ ਦਾ ਅਰਥ ਹੈ ਕਿ 'A, B ਦੀ ਪਤਨੀ ਹੈ' ਅਤੇ

$A \div B$ ਦਾ ਅਰਥ ਹੈ ਕਿ 'A, B ਦੀ ਮਾਤਾ ਹੈ'।

ਉਪਰੋਕਤ ਦੇ ਆਧਾਰ 'ਤੇ, ਜੇਕਰ ' $A \times Q + R - S \div B$ ' ਹੈ, ਤਾਂ A ਦਾ B ਨਾਲ ਕੀ ਰਿਸ਼ਤਾ ਹੈ?

Ans 1. ਮਾਤਾ ਦੀ ਭੈਣ

2. ਮਾਤਾ ਦੀ ਮਾਤਾ

3. ਭੈਣ

4. ਮਾਤਾ

Question ID : 630680364206

Option 1 ID : 6306801418533

Option 2 ID : 6306801418536

Option 3 ID : 6306801418534

Option 4 ID : 6306801418535

Status : Answered

Chosen Option : 1

Marks : 0

Q.60 A, B, C, D ਅਤੇ E ਪੰਜ ਬਕਸੇ ਹਨ। ਹਰ ਬਕਸੇ ਦਾ ਭਾਰ ਵੱਖ-ਵੱਖਰਾ ਹੈ। D, E ਨਾਲੋਂ ਭਾਰਾ ਪਰ A ਨਾਲੋਂ ਹਲਕਾ ਹੈ। C ਦੂਜਾ ਸਭ ਤੋਂ ਹਲਕਾ ਹੈ। E ਸਭ ਤੋਂ ਹਲਕਾ ਨਹੀਂ ਹੈ। ਇਨ੍ਹਾਂ ਪੰਜਾਂ ਬਕਸਿਆਂ ਵਿੱਚੋਂ ਸਭ ਤੋਂ ਭਾਰਾ ਕਿਹੜਾ ਬਕਸਾ ਹੈ?

Ans 1. B

2. D

3. A

4. E

Question ID : 63068058083

Option 1 ID : 630680224078

Option 2 ID : 630680224081

Option 3 ID : 630680224080

Option 4 ID : 630680224079

Status : Answered

Chosen Option : 1

Marks : 0

Q.61 ਦਿੱਤੀ ਗਈ ਲੜੀ ਵਿੱਚ ਪ੍ਰਸ਼ਨ ਚਿੰਨ੍ਹ (?) ਦੇ ਸਥਾਨ 'ਤੇ ਕਿਹੜੀ ਸੰਖਿਆ ਆਉਣੀ ਚਾਹੀਦੀ ਹੈ?

544 508 483 467 458 ?

Ans 1. 460

2. 450

3. 454

4. 452

Question ID : 630680271451

Option 1 ID : 6306801054879

Option 2 ID : 6306801054877

Option 3 ID : 6306801054878

Option 4 ID : 6306801054876

Status : Answered

Chosen Option : 1

Marks : 0

Q.62 ਦਿੱਤੇ ਗਏ ਕਥਨਾਂ ਅਤੇ ਸਿੱਟਿਆਂ ਨੂੰ ਧਿਆਨ ਨਾਲ ਪੜ੍ਹੋ। ਕਥਨਾਂ ਵਿੱਚ ਦਿੱਤੀ ਗਈ ਜਾਣਕਾਰੀ ਨੂੰ ਸਹੀ ਮੰਨੋ, ਭਾਵੇਂ ਇਹ ਆਮ ਤੌਰ 'ਤੇ ਜਾਣੇ ਜਾਂਦੇ ਤੱਥਾਂ ਤੋਂ ਭਿੰਨ ਜਾਪਦੀ ਹੋਵੇ ਅਤੇ ਇਹ ਫੈਸਲਾ ਕਰੋ ਕਿ ਦਿੱਤੇ ਗਏ ਸਿੱਟਿਆਂ ਵਿੱਚੋਂ ਕਿਹੜਾ/ਕਿਹੜੇ ਕਥਨਾਂ ਦੀ ਤਰਕਸੰਗਤ ਪਾਲਣਾ ਕਰਦਾ ਹੈ/ਕਰਦੇ ਹਨ।

ਕਥਨ:

(I) ਕੁਝ ਰੋਲ, ਬਾਲਟੀਆਂ ਹਨ।

(II) ਕੁਝ ਬਾਲਟੀਆਂ, ਤੌਲੀਏ ਹਨ।

ਸਿੱਟੇ:

(I) ਕੋਈ ਵੀ ਤੌਲੀਆ, ਰੋਲ ਨਹੀਂ ਹੈ।

(II) ਸਾਰੇ ਤੌਲੀਏ, ਬਾਲਟੀਆਂ ਹਨ।

- Ans
- 1. ਸਿਰਫ ਸਿੱਟਾ (II) ਪਾਲਣਾ ਕਰਦਾ ਹੈ।
 - 2. ਦੋਵੇਂ ਸਿੱਟੇ (I) ਅਤੇ (II) ਪਾਲਣਾ ਕਰਦੇ ਹਨ।
 - 3. ਨਾ ਤਾਂ ਸਿੱਟਾ (I) ਅਤੇ ਨਾ ਹੀ (II) ਪਾਲਣਾ ਕਰਦਾ ਹੈ।
 - 4. ਸਿਰਫ ਸਿੱਟਾ (I) ਪਾਲਣਾ ਕਰਦਾ ਹੈ।

Question ID : 630680277088
 Option 1 ID : 6306801076846
 Option 2 ID : 6306801076848
 Option 3 ID : 6306801076847
 Option 4 ID : 6306801076845
 Status : Answered
 Chosen Option : 3
 Marks : 1

Q.63 ਦਿੱਤੀ ਗਈ ਲੜੀ ਨੂੰ ਤਰਕਸੰਗਤ ਤਰੀਕੇ ਨਾਲ ਪੂਰਾ ਕਰਨ ਲਈ ਪ੍ਰਸ਼ਨ ਚਿੰਨ੍ਹ (?) ਦੀ ਥਾਂ ਕੀ ਆਉਣਾ ਚਾਹੀਦਾ ਹੈ?

DJ24 GM29 JP39 MS54 ?

- Ans
- 1. UX76
 - 2. UX74
 - 3. PV76
 - 4. PV74

Question ID : 630680350835
 Option 1 ID : 6306801365629
 Option 2 ID : 6306801365630
 Option 3 ID : 6306801365631
 Option 4 ID : 6306801365632
 Status : Answered
 Chosen Option : 2
 Marks : 0

Q.64 ਹੇਠਾਂ ਸੰਖਿਆਵਾਂ ਦੇ ਦੋ ਸਮੂਹ ਦਿੱਤੇ ਗਏ ਹਨ। ਸੰਖਿਆਵਾਂ ਦੇ ਹਰੇਕ ਸਮੂਹ ਵਿੱਚ, ਪਹਿਲੀ ਸੰਖਿਆ 'ਤੇ ਕੁੱਝ ਖਾਸ ਗਣਿਤਿਕ ਕਿਰਿਆਵਾਂ ਕਰ ਕੇ ਦੂਜੀ ਸੰਖਿਆ ਪ੍ਰਾਪਤ ਕੀਤੀ ਜਾਂਦੀ ਹੈ। ਇਸੇ ਤਰ੍ਹਾਂ ਹੀ, ਦੂਜੀ ਸੰਖਿਆ 'ਤੇ ਕੁੱਝ ਖਾਸ ਗਣਿਤਿਕ ਕਿਰਿਆਵਾਂ ਕਰ ਕੇ ਤੀਜੀ ਸੰਖਿਆ ਪ੍ਰਾਪਤ ਕੀਤੀ ਜਾਂਦੀ ਹੈ ਅਤੇ ਇਹ ਪੈਟਰਨ ਇਸੇ ਤਰ੍ਹਾਂ ਅੱਗੇ ਜਾਰੀ ਰਹਿੰਦਾ ਹੈ। ਇਸ ਪ੍ਰਸ਼ਨ ਦੇ ਸਮਾਨ ਕਿਰਿਆਵਾਂ ਦੇ ਸਮੂਹ ਦੀ ਪਾਲਣਾ, ਹੇਠ ਦਿੱਤਿਆਂ ਵਿੱਚੋਂ ਕਿਹੜੇ ਵਿਕਲਪ ਵਿਚਲੀਆਂ ਸੰਖਿਆਵਾਂ ਕਰਦੀਆਂ ਹਨ?

(ਨੋਟ: ਸੰਖਿਆਵਾਂ ਨੂੰ ਇਸਦੇ ਘਟਕ ਅੰਕਾਂ ਵਿੱਚ ਵੱਖ ਕੀਤੇ ਬਿਨਾਂ, ਗਣਿਤਿਕ ਕਿਰਿਆਵਾਂ ਸੰਪੂਰਨ ਸੰਖਿਆਵਾਂ 'ਤੇ ਕੀਤੀਆਂ ਜਾਣੀਆਂ ਚਾਹੀਦੀਆਂ ਹਨ। ਉਦਾਹਰਨ ਲਈ, 13 - ਸੰਖਿਆ 13 ਉੱਤੇ ਜੋੜ/ ਘਟਾਉ/ਗੁਣਾ ਆਦਿ ਵਰਗੀਆਂ ਕਿਰਿਆਵਾਂ ਕੀਤੀਆਂ ਜਾ ਸਕਦੀਆਂ ਹਨ। 13 ਨੂੰ 1 ਵਿੱਚ ਵੱਖ ਕਰਨ ਅਤੇ ਫਿਰ 1 ਅਤੇ 3 'ਤੇ ਗਣਿਤਿਕ ਕਿਰਿਆਵਾਂ ਕਰਨ ਦੀ ਆਗਿਆ ਨਹੀਂ ਹੈ।)

86 - 43 - 33 - 28
48 - 24 - 14 - 9

- Ans
- 1. 64 - 32 - 22 - 20
 - 2. 92 - 51 - 41 - 35
 - 3. 76 - 38 - 28 - 23
 - 4. 50 - 25 - 20 - 15

Question ID : 630680337268
Option 1 ID : 6306801311794
Option 2 ID : 6306801311795
Option 3 ID : 6306801311796
Option 4 ID : 6306801311793
Status : Answered
Chosen Option : 2
Marks : 0

Q.65 ਹੇਠਾਂ ਦਿੱਤੇ ਸੰਖਿਆ ਜੋੜਿਆਂ ਵਿੱਚੋਂ, ਪਹਿਲੀ ਸੰਖਿਆ ਉੱਤੇ ਕੁਝ ਖਾਸ ਗਣਿਤਿਕ ਕਿਰਿਆਵਾਂ ਕਰਕੇ ਦੂਜੀ ਸੰਖਿਆ ਪ੍ਰਾਪਤ ਕੀਤੀ ਜਾਂਦੀ ਹੈ। ਹੁਣ X ਅਤੇ Y ਦੇ ਸਥਾਨ 'ਤੇ ਕਿਹੜੀਆਂ ਸੰਖਿਆਵਾਂ ਆਉਣੀਆਂ ਚਾਹੀਦੀਆਂ ਹਨ ਤਾਂ ਜੋ :: ਦੇ ਖੱਬੇ ਪਾਸੇ ਲਿਖੀਆਂ ਸੰਖਿਆਵਾਂ ਵਲੋਂ ਪਾਲਣਾ ਕੀਤਾ ਜਾਣ ਵਾਲਾ ਪੈਟਰਨ :: ਦੇ ਸੱਜੇ ਪਾਸੇ ਲਿਖੀਆਂ ਸੰਖਿਆਵਾਂ ਦੇ ਸਮਾਨ ਹੋਵੇ।

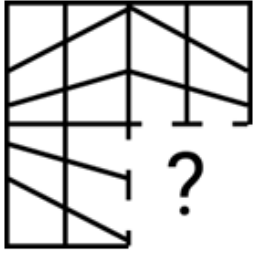
(ਨੋਟ: ਗਣਿਤਿਕ ਕਿਰਿਆਵਾਂ ਪੂਰਨ ਸੰਖਿਆਵਾਂ ਦੇ ਘਟਕ ਅੰਕਾਂ ਨੂੰ ਆਪਸ ਵਿੱਚ ਵੱਖ ਕੀਤੇ ਬਿਨਾਂ ਹੀ ਕਰਨੀਆਂ ਚਾਹੀਦੀਆਂ ਹਨ। ਉਦਾਹਰਨ ਵਜੋਂ 13 - ਸੰਖਿਆ 13 ਦੇ ਉੱਤੇ ਜਮਾਂ/ਘਟਾਉ/ਗੁਣਾ ਆਦਿ ਗਣਿਤਿਕ ਕਿਰਿਆਵਾਂ ਕੀਤੀਆਂ ਜਾ ਸਕਦੀਆਂ ਹਨ। 13 ਦੇ ਘਟਕ ਅੰਕਾਂ 1 ਅਤੇ 3 ਨੂੰ ਆਪਸ ਵਿੱਚ ਵੱਖ ਕਰਨ ਅਤੇ 1 ਅਤੇ 3 ਉੱਤੇ ਗਣਿਤਿਕ ਕਿਰਿਆਵਾਂ ਕਰਨ ਦੀ ਇਜਾਜ਼ਤ ਨਹੀਂ ਹੈ।)

X : 47 :: 16 : Y

- Ans
- 1. X = 7, Y = 110
 - 2. X = 8, Y = 110
 - 3. X = 7, Y = 111
 - 4. X = 8, Y = 111

Question ID : 630680709879
Option 1 ID : 6306802781176
Option 2 ID : 6306802781178
Option 3 ID : 6306802781177
Option 4 ID : 6306802781179
Status : Answered
Chosen Option : 1
Marks : 1

Q.66 ਹੇਠਾਂ ਦਿੱਤੇ ਚਿੱਤਰ ਵਿੱਚ ਪੈਟਰਨ ਨੂੰ ਪੂਰਾ ਕਰਨ ਲਈ ਪ੍ਰਸ਼ਨ ਚਿੰਨ੍ਹ (?) ਦੀ ਥਾਂ ਲੈਣ ਵਾਲਾ ਵਿਕਲਪ ਚੁਣੋ।

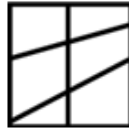


Ans

✗ 1.



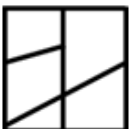
✓ 2.



✗ 3.



✗ 4.



Question ID : 630680524556
Option 1 ID : 6306802050325
Option 2 ID : 6306802050326
Option 3 ID : 6306802050323
Option 4 ID : 6306802050324

Status : Answered

Chosen Option : 3

Marks : 0

Q.67 ਹੇਠਾਂ ਦਿੱਤੀ ਅੱਖਰ-ਚਿੰਨ੍ਹ ਲੜੀ ਦੇ ਹਵਾਲੇ ਤੋਂ ਦਿੱਤੇ ਗਏ ਪ੍ਰਸ਼ਨ ਦਾ ਉੱਤਰ ਦਿਓ। (ਗਿਣਤੀ ਸਿਰਫ ਖੱਬੇ ਤੋਂ ਸੱਜੇ ਹੀ ਕਰਨੀ ਹੈ।)

(ਖੱਬਾ) T @ Q M # A P S U L % G E H V @ B * C W Z (ਸੱਜਾ)

ਜੇਕਰ ਲੜੀ ਵਿੱਚੋਂ ਸਾਰੇ ਚਿੰਨ੍ਹ ਅਤੇ ਸਵਰ ਹਟਾ ਦਿੱਤੇ ਜਾਂਦੇ ਹਨ, ਤਾਂ ਹੇਠਾਂ ਦਿੱਤੇ ਵਿੱਚੋਂ ਕਿਹੜਾ ਖੱਬੇ ਸਿਰੇ ਤੋਂ ਛੇਵਾਂ ਹੋਵੇਗਾ?

Ans ✗ 1. V

✗ 2. G

✓ 3. L

✗ 4. S

Question ID : 630680382725
Option 1 ID : 6306801491818
Option 2 ID : 6306801491816
Option 3 ID : 6306801491815
Option 4 ID : 6306801491817

Status : Answered

Chosen Option : 1

Marks : 0

Q.68 ਕਸਬਾ I, ਕਸਬੇ K ਦੇ ਉੱਤਰ-ਪੱਛਮ ਵਿੱਚ ਹੈ। ਕਸਬਾ L, ਕਸਬੇ K ਦੇ ਪੱਛਮ ਵਿੱਚ ਹੈ। ਕਸਬਾ K, ਕਸਬੇ M ਦੇ ਉੱਤਰ ਵਿੱਚ ਹੈ। ਕਸਬਾ J, ਕਸਬੇ I ਦੇ ਪੱਛਮ ਵਿੱਚ ਹੈ। ਕਸਬਾ M ਦੇ ਸੰਬੰਧ ਵਿੱਚ, ਕਸਬਾ I ਕਿਸ ਦਿਸ਼ਾ ਵਿੱਚ ਸਥਿਤ ਹੈ?

- Ans
- 1. ਦੱਖਣ
 - 2. ਪੱਛਮ
 - 3. ਉੱਤਰ-ਪੱਛਮ
 - 4. ਉੱਤਰ-ਪੂਰਬ

Question ID : 630680295179
 Option 1 ID : 6306801148441
 Option 2 ID : 6306801148443
 Option 3 ID : 6306801148442
 Option 4 ID : 6306801148440
 Status : Answered
 Chosen Option : 3
 Marks : 1

Q.69 ਦਿੱਤੀ ਗਈ ਲੜੀ ਵਿੱਚ ਪ੍ਰਸ਼ਨ ਚਿੰਨ੍ਹ (?) ਦੇ ਸਥਾਨ 'ਤੇ ਕਿਹੜੀ ਸੰਖਿਆ ਆਉਣੀ ਚਾਹੀਦੀ ਹੈ?

23 69 207 621 1863 ?

- Ans
- 1. 5300
 - 2. 5600
 - 3. 5589
 - 4. 4800

Question ID : 630680162699
 Option 1 ID : 630680630092
 Option 2 ID : 630680630095
 Option 3 ID : 630680630094
 Option 4 ID : 630680630093
 Status : Answered
 Chosen Option : 2
 Marks : 0

Q.70 ਹੇਠਾਂ ਦਿੱਤੇ ਅੱਖਰ-ਸਮੂਹਾਂ ਵਿੱਚੋਂ ਕਿਹੜੇ ਨੂੰ # ਅਤੇ % ਦੀ ਥਾਂ 'ਤੇ ਆਉਣਾ ਚਾਹੀਦਾ ਹੈ ਤਾਂ ਕਿ :: ਦੇ ਖੱਬੇ ਪਾਸੇ ਵਾਲੇ ਅੱਖਰ-ਸਮੂਹ ਜੋੜੇ ਦੇ ਵਿਚਕਾਰ ਅਪਣਾਇਆ ਗਿਆ ਪੈਟਰਨ ਅਤੇ ਸਬੰਧ :: ਦੇ ਸੱਜੇ ਪਾਸੇ ਦੇ ਸਮਾਨ ਹੋ ਜਾਵੇ?

: LNK :: SUR : %

- Ans
- 1. # = PRO, % = OQN
 - 2. # = PRO, % = OQM
 - 3. # = PRN, % = OQN
 - 4. # = PRO, % = ORN

Question ID : 630680743644
 Option 1 ID : 6306802914898
 Option 2 ID : 6306802914899
 Option 3 ID : 6306802914900
 Option 4 ID : 6306802914901
 Status : Answered
 Chosen Option : 4
 Marks : 0

Q.71 ਦਿੱਤੀ ਗਈ ਲੜੀ ਵਿੱਚ ਪ੍ਰਸ਼ਨ ਚਿੰਨ੍ਹ (?) ਦੇ ਸਥਾਨ 'ਤੇ ਕਿਹੜੀ ਸੰਖਿਆ ਆਉਣੀ ਚਾਹੀਦੀ ਹੈ?
9 12 21 48 129 ?

- Ans
- 1. 256
 - 2. 278
 - 3. 363
 - 4. 372

Question ID : 630680332572
Option 1 ID : 6306801293726
Option 2 ID : 6306801293728
Option 3 ID : 6306801293727
Option 4 ID : 6306801293725
Status : Answered
Chosen Option : 2
Marks : 0

Q.72 ਅੰਗਰੇਜ਼ੀ ਵਰਣਮਾਲਾ ਲੜੀ ਦੇ ਆਧਾਰ 'ਤੇ ਦਿੱਤੀ ਗਈ ਲੜੀ ਵਿੱਚ ਪ੍ਰਸ਼ਨ ਚਿੰਨ੍ਹ (?) ਦੀ ਥਾਂ 'ਤੇ ਕੀ ਆਉਣਾ ਚਾਹੀਦਾ ਹੈ?

ASK DYT GEC ? MQU

- Ans
- 1. VGY
 - 2. THG
 - 3. ONQ
 - 4. JKL

Question ID : 630680389734
Option 1 ID : 6306801519395
Option 2 ID : 6306801519396
Option 3 ID : 6306801519397
Option 4 ID : 6306801519394
Status : Answered
Chosen Option : 1
Marks : 0

Q.73 ਹੇਠਾਂ ਦਿੱਤੀ ਲੜੀ ਨੂੰ ਧਿਆਨ ਵਿੱਚ ਰੱਖਦੇ ਹੋਏ ਪੁੱਛੇ ਗਏ ਪ੍ਰਸ਼ਨ ਦਾ ਉੱਤਰ ਦਿਓ। ਗਿਣਤੀ ਸਿਰਫ ਖੱਬੇ ਤੋਂ ਸੱਜੇ ਹੋਣੀ ਚਾਹੀਦੀ ਹੈ। (ਸਾਰੀਆਂ ਸੰਖਿਆਵਾਂ ਇੱਕ ਅੰਕੀ ਸੰਖਿਆਵਾਂ ਹਨ)

(ਖੱਬਾ) $81 > 5 \# < 97 \# @ + 898 \# 3 < \&$ (ਸੱਜਾ)

ਅਜਿਹੀਆਂ ਕਿੰਨੀਆਂ ਸੰਖਿਆਵਾਂ ਹਨ, ਜਿਨ੍ਹਾਂ ਵਿੱਚੋਂ ਹਰੇਕ ਦੇ ਠੀਕ ਪਹਿਲਾਂ ਇੱਕ ਜਿਸਤ ਸੰਖਿਆ ਹੈ ਪਰ ਠੀਕ ਬਾਅਦ ਕੋਈ ਜਿਸਤ ਸੰਖਿਆ ਨਹੀਂ ਹੈ?

- Ans
- 1. ਕੋਈ ਨਹੀਂ
 - 2. ਇੱਕ
 - 3. ਤਿੰਨ
 - 4. ਚਾਰ

Question ID : 630680727482
Option 1 ID : 6306802850727
Option 2 ID : 6306802850726
Option 3 ID : 6306802850729
Option 4 ID : 6306802850728
Status : Answered
Chosen Option : 1
Marks : 0

Q.74 ਹੇਠਾਂ ਦਿੱਤੀ ਲੜੀ ਨੂੰ ਧਿਆਨ ਵਿੱਚ ਰੱਖਦੇ ਹੋਏ ਪੁੱਛੇ ਗਏ ਪ੍ਰਸ਼ਨ ਦਾ ਉੱਤਰ ਦਿਓ। ਗਿਣਤੀ ਸਿਰਫ ਖੱਬੇ ਤੋਂ ਸੱਜੇ ਹੋਣੀ ਚਾਹੀਦੀ ਹੈ। (ਸਾਰੀਆਂ ਸੰਖਿਆਵਾਂ ਇੱਕ ਅੰਕੀ ਸੰਖਿਆਵਾਂ ਹਨ)

(ਖੱਬਾ) 2 2 8 5 0 7 9 7 9 7 2 4 2 9 4 3 0 0 3 7 8 7 8 5 5 1 8 1 0 (ਸੱਜਾ)

ਅਜਿਹੇ ਕਿੰਨੇ ਜਿਸਤ ਅੰਕ ਹਨ, ਜਿਨ੍ਹਾਂ ਵਿੱਚੋਂ ਹਰੇਕ ਦੇ ਠੀਕ ਪਹਿਲਾਂ ਇੱਕ ਟਾਂਕ ਅੰਕ ਅਤੇ ਠੀਕ ਬਾਅਦ ਇੱਕ ਟਾਂਕ ਅੰਕ ਹੈ?

- Ans
- 1. ਦੋ
 - 2. ਇੱਕ
 - 3. ਤਿੰਨ ਤੋਂ ਵੱਧ
 - 4. ਤਿੰਨ

Question ID : 630680725978

Option 1 ID : 6306802844948

Option 2 ID : 6306802844951

Option 3 ID : 6306802844950

Option 4 ID : 6306802844949

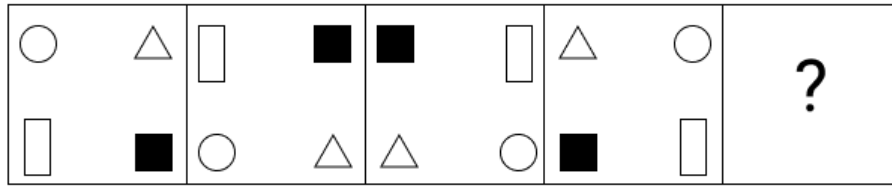
Status : Answered

Chosen Option : 3

Marks : 1



Q.75 ਵਿਕਲਪਾਂ ਵਿੱਚ ਦਿੱਤੀ ਗਈ ਆਕ੍ਰਿਤੀ ਦੀ ਚੋਣ ਕਰੋ ਜਿਸ ਨੂੰ ਪ੍ਰਥਮ ਚਿੰਨ੍ਹ (?) ਦੀ ਥਾਂ 'ਤੇ ਰੱਖਣ ਨਾਲ ਲੜੀ ਨੂੰ ਤਰਕਸੰਗਤ ਢੰਗ ਨਾਲ ਪੂਰਾ ਕੀਤਾ ਜਾਵੇਗਾ।



Ans

- ✗ 1.

▭	○
△	■
- ✗ 2.

▭	○
■	△
- ✗ 3.

△	■
○	▭
- ✓ 4.

○	△
▭	■

Question ID : 630680720397
 Option 1 ID : 6306802823155
 Option 2 ID : 6306802823154
 Option 3 ID : 6306802823156
 Option 4 ID : 6306802823157
 Status : Answered
 Chosen Option : 1
 Marks : 0

Q.76 Fill in the blank by selecting the appropriate phrasal verb from the given options.

Sushmita and Reshma always _____ the engine of their brother's newly purchased motorbike.

- Ans
- 1. make good
 - 2. monkey around with
 - 3. pull through
 - 4. narrow down

Question ID : 63068084633

Option 1 ID : 630680328069

Option 2 ID : 630680328070

Option 3 ID : 630680328071

Option 4 ID : 630680328068

Status : Answered

Chosen Option : 3

Marks : 0

Q.77 Which sentence contains an error in the usage of articles?

- Ans
- 1. Can you pass me a pen from the table?
 - 2. He is looking for an book to read in the library.
 - 3. She wants to buy an apple from the store.
 - 4. I saw an eagle flying high in the sky.

Question ID : 630680662371

Option 1 ID : 6306802593179

Option 2 ID : 6306802593178

Option 3 ID : 6306802593176

Option 4 ID : 6306802593177

Status : Answered

Chosen Option : 3

Marks : 0

Q.78 'Bateful' ਸ਼ਬਦ ਦਾ ਪੰਜਾਬੀ ਅਨੁਵਾਦ ਦੱਸੋ?

- Ans
- 1. ਛੱਡਣਾ
 - 2. ਬੁਨਿਆਦ
 - 3. ਬੇ-ਬੁਨਿਆਦ
 - 4. ਝਗੜਾਊ

Question ID : 630680965819

Option 1 ID : 6306803787775

Option 2 ID : 6306803787778

Option 3 ID : 6306803787776

Option 4 ID : 6306803787777

Status : Answered

Chosen Option : 3

Marks : 0

Q.79 Sentences of a paragraph are given below in jumbled order. Arrange the sentences in the correct order to form a meaningful and coherent paragraph.

- A. The rise and growth of it has led to hunger issues across the globe.
- B. Rapid growth of population is called population explosion.
- C. The reason behind this jump is the advance development in modern science.
- D. Thus, many countries are trying their best to make people aware about birth control.

- Ans
- 1. BDAC
 - 2. BACD
 - 3. ADCB
 - 4. ACDB

Question ID : 630680717340
Option 1 ID : 6306802810942
Option 2 ID : 6306802810941
Option 3 ID : 6306802810943
Option 4 ID : 6306802810944
Status : Answered
Chosen Option : 2
Marks : 1

Q.80 Select the most appropriate ANTONYM of the word given in brackets to fill in the blank.

Yet, as earth's other natural resources _____, nations eye the Antarctic as a final repository.
(Flourish)

- Ans
- 1. furbelow
 - 2. embellishment
 - 3. dwindle
 - 4. obscene

Question ID : 630680732136
Option 1 ID : 6306802869339
Option 2 ID : 6306802869338
Option 3 ID : 6306802869340
Option 4 ID : 6306802869341
Status : Answered
Chosen Option : 2
Marks : 0

Q.81 Parts of a sentence are given below in jumbled order. Arrange the parts in the correct order to form a meaningful sentence.

- a. of a planet that broke apart
- b. the asteroids were
- c. thought to be remnants
- d. in a terrible cataclysm

Ans 1. abdc
 2. bcad
 3. cbad
 4. abcd

Question ID : 630680730506
Option 1 ID : 6306802862702
Option 2 ID : 6306802862704
Option 3 ID : 6306802862701
Option 4 ID : 6306802862703
Status : Answered
Chosen Option : 2
Marks : 1

Q.82 The following sentence has been divided into parts. One of them may contain an error. Select the part that contains the error from the given options. If you don't find any error, mark 'No error' as your answer.

She called on my office / yesterday but I was / out of station on tour.

Ans 1. No error
 2. out of station on tour.
 3. yesterday but I was
 4. She called on my office

Question ID : 630680735636
Option 1 ID : 6306802883269
Option 2 ID : 6306802883268
Option 3 ID : 6306802883267
Option 4 ID : 6306802883266
Status : Answered
Chosen Option : 4
Marks : 1

Comprehension:

Read the given passage and answer the questions that follow.

Cats were genuinely revered in ancient times. The ancient Egyptians venerated a pantheon of over 2,000 deities, among them were cats. In ancient Egypt, where dogs were esteemed for their protective prowess, yet cats held a special status. Known as 'Mau' after our distinctive vocalisation, cats were believed to possess mystical powers, bestowing fortune upon those who harboured them. This belief persists to this day. Wealthy families adorned their cherished felines with jewels and regaled them with sumptuous treats, akin to royalty. In Egyptian folklore, deities could assume animal forms, with only Bastet, the feline goddess, embodying a cat. In Per-Bast, a grand temple stood and is drawing pilgrims from afar to honour cats.

Mafdet, depicted with a feline visage, safeguarded the king's chambers from serpents and malevolence, embodying strength and justice. The cat's ancestors were revered as powerful beings, basked in the sun's radiance, ready to defend against any who dared challenge them. Initially, cats found their way into Egyptian agricultural settlements, offering respite from pest infestations. In return for food offerings, cats provided invaluable pest control, fostering symbiosis between species.

SubQuestion No : 83

Q.83 Select the deity that personifies cat from the following.

- Ans
- 1. Per-bast
 - 2. Bastet
 - 3. Mafdet
 - 4. Mau

Question ID : 630680718855
Option 1 ID : 6306802816906
Option 2 ID : 6306802816905
Option 3 ID : 6306802816904
Option 4 ID : 6306802816907

Status : Answered

Chosen Option : 2

Marks : 1

Comprehension:

Read the given passage and answer the questions that follow.

Cats were genuinely revered in ancient times. The ancient Egyptians venerated a pantheon of over 2,000 deities, among them were cats. In ancient Egypt, where dogs were esteemed for their protective prowess, yet cats held a special status. Known as 'Mau' after our distinctive vocalisation, cats were believed to possess mystical powers, bestowing fortune upon those who harboured them. This belief persists to this day. Wealthy families adorned their cherished felines with jewels and regaled them with sumptuous treats, akin to royalty. In Egyptian folklore, deities could assume animal forms, with only Bastet, the feline goddess, embodying a cat. In Per-Bast, a grand temple stood and is drawing pilgrims from afar to honour cats.

Mafdet, depicted with a feline visage, safeguarded the king's chambers from serpents and malevolence, embodying strength and justice. The cat's ancestors were revered as powerful beings, basked in the sun's radiance, ready to defend against any who dared challenge them. Initially, cats found their way into Egyptian agricultural settlements, offering respite from pest infestations. In return for food offerings, cats provided invaluable pest control, fostering symbiosis between species.

SubQuestion No : 84

Q.84 Select the most appropriate title for the passage.

- Ans
- 1. Canine and feline
 - 2. History and humans
 - 3. Cats and dogs
 - 4. Egyptian civilisation

Question ID : 630680718856
Option 1 ID : 6306802816910
Option 2 ID : 6306802816911
Option 3 ID : 6306802816909
Option 4 ID : 6306802816908

Status : Answered

Chosen Option : 2

Marks : 0

Comprehension:

Read the given passage and answer the questions that follow.

Cats were genuinely revered in ancient times. The ancient Egyptians venerated a pantheon of over 2,000 deities, among them were cats. In ancient Egypt, where dogs were esteemed for their protective prowess, yet cats held a special status. Known as 'Mau' after our distinctive vocalisation, cats were believed to possess mystical powers, bestowing fortune upon those who harboured them. This belief persists to this day. Wealthy families adorned their cherished felines with jewels and regaled them with sumptuous treats, akin to royalty. In Egyptian folklore, deities could assume animal forms, with only Bastet, the feline goddess, embodying a cat. In Per-Bast, a grand temple stood and is drawing pilgrims from afar to honour cats.

Mafdet, depicted with a feline visage, safeguarded the king's chambers from serpents and malevolence, embodying strength and justice. The cat's ancestors were revered as powerful beings, basked in the sun's radiance, ready to defend against any who dared challenge them. Initially, cats found their way into Egyptian agricultural settlements, offering respite from pest infestations. In return for food offerings, cats provided invaluable pest control, fostering symbiosis between species.

SubQuestion No : 85

Q.85 Based on the passage, select the most appropriate description of the word given below.

Visage

- Ans
- 1. Powerful aura
 - 2. Body structure
 - 3. Grand presence
 - 4. Facial features

Question ID : 630680718857
 Option 1 ID : 6306802816914
 Option 2 ID : 6306802816913
 Option 3 ID : 6306802816915
 Option 4 ID : 6306802816912
 Status : Answered
 Chosen Option : 4
 Marks : 1

Q.86 'ਜਿਹੜਾ ਸਮੁੰਦਰ ਵਿੱਚੋਂ ਚੁੱਭੀਆਂ ਮਾਰ ਕੇ ਮੋਤੀ ਲੱਭੇ 'ਉਸਨੂੰ ਕੀ ਕਹਿੰਦੇ ਹਨ?

- Ans
- 1. ਮਰਜੀਵੜਾ
 - 2. ਜਵਾਹਰੀ
 - 3. ਜੁਆਰੀਆ
 - 4. ਮਾਇਆਧਾਰੀ

Question ID : 630680965865
 Option 1 ID : 6306803787944
 Option 2 ID : 6306803787943
 Option 3 ID : 6306803787946
 Option 4 ID : 6306803787945
 Status : Answered
 Chosen Option : 4
 Marks : 0

Q.87 'ਫਸਤਾ ਵੱਢਣਾ' ਮੁਹਾਵਰੇ ਦਾ ਅਰਥ ਕੀ ਹੈ?

- Ans
- 1. ਅਪਣੱਤ ਖਤਮ ਕਰਨਾ
 - 2. ਮੁਕਾ ਦੇਣਾ
 - 3. ਕਚੀਚੀਆਂ ਵੱਟਣਾ
 - 4. ਹਰਾ ਦੇਣਾ

Question ID : 630680965884
 Option 1 ID : 6306803788014
 Option 2 ID : 6306803788012
 Option 3 ID : 6306803788013
 Option 4 ID : 6306803788011
 Status : Answered
 Chosen Option : 1
 Marks : 0

Q.88 'ਯੋਧਿਆਂ ਦੀ ਮਹਿਮਾ ਵਿੱਚ ਲਿਖੀ ਗਈ ਬ੍ਰਿਤਾਂਤਿਕ ਕਵਿਤਾ' ਨੂੰ ਕੀ ਕਹਿੰਦੇ ਹਨ?

- Ans
- 1. ਕਵਿਸ਼ਰੀ
 - 2. ਕਹਾਣੀ
 - 3. ਵਿਰਾਸਤ
 - 4. ਵਾਰ

Question ID : 630680965975
 Option 1 ID : 6306803788346
 Option 2 ID : 6306803788343
 Option 3 ID : 6306803788345
 Option 4 ID : 6306803788344
 Status : Answered
 Chosen Option : 3
 Marks : 0

Q.89 ਹੇਠ ਲਿਖੇ ਵਾਕਾਂ ਵਿੱਚੋਂ ਕਿਹੜਾ ਸ਼ੁੱਧ ਹੈ?

- Ans
- 1. ਕੰਮ ਹੋ ਜਾਂਦਾ, ਜੇ ਮੈਂ ਜਲੰਧਰੋਂ ਆਉਂਦਾ।
 - 2. ਮੈਂ ਜੇ, ਜਲੰਧਰੋਂ ਆਉਂਦਾ ਤਾਂ ਕੰਮ ਹੋ ਜਾਂਦਾ।
 - 3. ਜੇ ਮੈਂ ਜਲੰਧਰੋਂ ਆਉਂਦਾ, ਤਾਂ ਕੰਮ ਹੋ ਜਾਂਦਾ।
 - 4. ਜੇ ਜਲੰਧਰੋਂ, ਮੈਂ ਆਉਂਦਾ ਤਾਂ ਕੰਮ ਹੋ ਜਾਂਦਾ।

Question ID : 630680965936
 Option 1 ID : 6306803788202
 Option 2 ID : 6306803788199
 Option 3 ID : 6306803788200
 Option 4 ID : 6306803788201
 Status : Answered
 Chosen Option : 3
 Marks : 1

Q.90 'ਕੰਮ ਆਪ ਨਾ ਕਰ ਸਕਣਾ ਤੇ ਕਸੂਰ ਦੂਜਿਆਂ ਦੇ ਸਿਰ ਮੜਨਾ' ਵਾਕ ਨੂੰ ਪਛਾਣੋ?

- Ans 1. ਉੱਠ ਨਾ ਸਕਾਂ, ਫਿੱਟੇ ਮੂੰਹ ਗੋਡਿਆਂ ਦਾ
 2. ਅੰਨ੍ਹਿਆਂ ਵਿੱਚ ਕਾਣਾ ਰਾਜਾ
 3. ਉਲਟਾ ਚੇਰ ਕੁਤਵਾਲ ਨੂੰ ਡਾਂਟੇ
 4. ਆਪਣੀਆਂ ਨਾ ਦੱਸਾਂ ਤੇ ਪਰਾਈਆਂ ਕਰ-ਕਰ ਹੱਸਾਂ

Question ID : 630680965828

Option 1 ID : 6306803787808

Option 2 ID : 6306803787807

Option 3 ID : 6306803787810

Option 4 ID : 6306803787809

Status : Answered

Chosen Option : 3

Marks : 0

Q.91 'Affliction' ਸ਼ਬਦ ਦਾ ਪੰਜਾਬੀ ਅਨੁਵਾਦ ਦੱਸੋ?

- Ans 1. ਝਗੜਾਲੂ
 2. ਪਰਛਾਵਾਂ
 3. ਕਲੇਸ਼
 4. ਕਸ਼ਟ

Question ID : 630680965973

Option 1 ID : 6306803788337

Option 2 ID : 6306803788335

Option 3 ID : 6306803788338

Option 4 ID : 6306803788336

Status : Answered

Chosen Option : 1

Marks : 0

Q.92 'OCD' ਦਾ ਪੂਰਾ ਨਾਮ ਦੱਸੋ?

- Ans 1. Obsessive Compulsive Disorder
 2. Obsessive Compulsive Disorder
 3. Obsessive Compulsive Disorder
 4. Obsessive Compulsive Disorder

Question ID : 630680965875

Option 1 ID : 6306803787982

Option 2 ID : 6306803787979

Option 3 ID : 6306803787980

Option 4 ID : 6306803787981

Status : Answered

Chosen Option : 2

Marks : 0

Comprehension:

ਹੇਠ ਲਿਖੇ ਪੈਰੇ ਨੂੰ ਪੜ੍ਹੋ ਅਤੇ ਬਾਅਦ ਵਿੱਚ ਪੁੱਛੇ ਗਏ ਪ੍ਰਸ਼ਨਾਂ ਦੇ ਉੱਤਰ ਦਿਉ।
ਗੁਰੂ ਗੋਬਿੰਦ ਸਿੰਘ ਜੀ ਮਨੁੱਖ ਦੀ ਏਕਤਾ ਵਿੱਚ ਵਿਸ਼ਵਾਸ ਰੱਖਦੇ ਸਨ। ਆਪ ਦੀ ਲੜਾਈ ਜ਼ਾਲਿਮ ਤੇ ਜਾਬਰ ਵਿਰੁੱਧ ਸੀ। ਇਹੋ ਹੀ ਕਾਰਨ ਹੈ ਕਿ ਹਰ ਫ਼ਿਰਕੇ ਦੇ ਯੋਧੇ ਆਪ ਦੀ ਸੈਨਾ ਵਿੱਚ ਫ਼ੌਜੀ ਅਫ਼ਸਰ ਦੀ ਪਦਵੀ ਨੂੰ ਗ੍ਰਹਿਣ ਕਰਕੇ ਜ਼ੁਲਮ ਦਾ ਟਾਕਰਾ ਕਰਨ ਲਈ ਫ਼ਖਰ ਮਹਿਸੂਸ ਕਰਦੇ ਸਨ। ਪੀਰ ਬੁੱਧੂ ਸ਼ਾਹ ਦਾ ਆਪ ਜੀ ਦੀ ਸੈਨਾ ਵਿੱਚ ਸ਼ਾਮਲ ਹੋਣਾ ਇੱਕ ਪ੍ਰਮੁੱਖ ਪ੍ਰਮਾਣ ਹੈ। ਬਹੁਤ ਸਾਰੇ ਹਿੰਦੂ ਕਵੀਆਂ ਦੀ ਸਰਪ੍ਰਸਤੀ ਵੀ ਆਪ ਜੀ ਨੇ ਕੀਤੀ। ਆਪ ਜੀ ਦਾ ਸਾਰਾ ਜੀਵਨ ਹੀ ਜੰਗਾਂ-ਯੁੱਧਾਂ ਤੇ ਜਦੋ-ਜਹਿਦ ਵਿੱਚ ਲੰਘਿਆ। ਪਹਾੜੀ ਰਾਜਿਆਂ ਅਤੇ ਮੁਗਲ ਬਾਦਸ਼ਾਹਾਂ ਨਾਲ ਆਪ ਜੀ ਨੇ ਲੋਹਾ ਲਿਆ। ਮੁੱਠੀ ਭਰ ਖਾਲਸਾ ਫ਼ੌਜਾਂ ਵਿੱਚ ਆਪ ਨੇ ਅਜਿਹੀ ਸਪਿਰਟ ਭਰ ਦਿੱਤੀ ਜੋ ਕਿ ਵੈਰੀਆਂ ਦੇ ਲੱਖਾਂ ਦੀ ਗਿਣਤੀ ਦੇ ਦਲਾਂ ਉੱਤੇ ਭਾਰੂ ਸਾਬਤ ਹੋਈ।

SubQuestion No : 93

Q.93 ਗੁਰੂ ਜੀ ਕਿਸ ਵਿੱਚ ਵਿਸ਼ਵਾਸ ਰੱਖਦੇ ਸਨ?

- Ans 1. ਮਨੁੱਖ ਮਾਤਰ ਦੀ ਏਕਤਾ ਵਿੱਚ
 2. ਮਨੁੱਖ ਮਾਤਰ ਦੇ ਫ਼ਰਜਾਂ ਵਿੱਚ
 3. ਮਨੁੱਖ ਮਾਤਰ ਦੀ ਤਾਕਤ ਵਿੱਚ
 4. ਮਨੁੱਖ ਮਾਤਰ ਦੇ ਹੱਕਾਂ ਵਿੱਚ

Question ID : 630680965825
 Option 1 ID : 6306803787797
 Option 2 ID : 6306803787798
 Option 3 ID : 6306803787795
 Option 4 ID : 6306803787796
 Status : Answered
 Chosen Option : 1
 Marks : 1

Comprehension:

ਹੇਠ ਲਿਖੇ ਪੈਰੇ ਨੂੰ ਪੜ੍ਹੋ ਅਤੇ ਬਾਅਦ ਵਿੱਚ ਪੁੱਛੇ ਗਏ ਪ੍ਰਸ਼ਨਾਂ ਦੇ ਉੱਤਰ ਦਿਉ।
ਗੁਰੂ ਗੋਬਿੰਦ ਸਿੰਘ ਜੀ ਮਨੁੱਖ ਦੀ ਏਕਤਾ ਵਿੱਚ ਵਿਸ਼ਵਾਸ ਰੱਖਦੇ ਸਨ। ਆਪ ਦੀ ਲੜਾਈ ਜ਼ਾਲਿਮ ਤੇ ਜਾਬਰ ਵਿਰੁੱਧ ਸੀ। ਇਹੋ ਹੀ ਕਾਰਨ ਹੈ ਕਿ ਹਰ ਫ਼ਿਰਕੇ ਦੇ ਯੋਧੇ ਆਪ ਦੀ ਸੈਨਾ ਵਿੱਚ ਫ਼ੌਜੀ ਅਫ਼ਸਰ ਦੀ ਪਦਵੀ ਨੂੰ ਗ੍ਰਹਿਣ ਕਰਕੇ ਜ਼ੁਲਮ ਦਾ ਟਾਕਰਾ ਕਰਨ ਲਈ ਫ਼ਖਰ ਮਹਿਸੂਸ ਕਰਦੇ ਸਨ। ਪੀਰ ਬੁੱਧੂ ਸ਼ਾਹ ਦਾ ਆਪ ਜੀ ਦੀ ਸੈਨਾ ਵਿੱਚ ਸ਼ਾਮਲ ਹੋਣਾ ਇੱਕ ਪ੍ਰਮੁੱਖ ਪ੍ਰਮਾਣ ਹੈ। ਬਹੁਤ ਸਾਰੇ ਹਿੰਦੂ ਕਵੀਆਂ ਦੀ ਸਰਪ੍ਰਸਤੀ ਵੀ ਆਪ ਜੀ ਨੇ ਕੀਤੀ। ਆਪ ਜੀ ਦਾ ਸਾਰਾ ਜੀਵਨ ਹੀ ਜੰਗਾਂ-ਯੁੱਧਾਂ ਤੇ ਜਦੋ-ਜਹਿਦ ਵਿੱਚ ਲੰਘਿਆ। ਪਹਾੜੀ ਰਾਜਿਆਂ ਅਤੇ ਮੁਗਲ ਬਾਦਸ਼ਾਹਾਂ ਨਾਲ ਆਪ ਜੀ ਨੇ ਲੋਹਾ ਲਿਆ। ਮੁੱਠੀ ਭਰ ਖਾਲਸਾ ਫ਼ੌਜਾਂ ਵਿੱਚ ਆਪ ਨੇ ਅਜਿਹੀ ਸਪਿਰਟ ਭਰ ਦਿੱਤੀ ਜੋ ਕਿ ਵੈਰੀਆਂ ਦੇ ਲੱਖਾਂ ਦੀ ਗਿਣਤੀ ਦੇ ਦਲਾਂ ਉੱਤੇ ਭਾਰੂ ਸਾਬਤ ਹੋਈ।

SubQuestion No : 94

Q.94 ਗੁਰੂ ਜੀ ਨੇ ਕਿਨ੍ਹਾਂ ਨਾਲ ਲੋਹਾ ਲਿਆ?

- Ans 1. ਪਹਾੜੀ ਰਾਜਿਆਂ ਤੇ ਮੁਗਲ ਬਾਦਸ਼ਾਹਾਂ ਨਾਲ
 2. ਕਵੀਆਂ ਨਾਲ
 3. ਹਿੰਦੂਆਂ ਨਾਲ
 4. ਪਠਾਣਾਂ ਨਾਲ

Question ID : 630680965824
 Option 1 ID : 6306803787791
 Option 2 ID : 6306803787792
 Option 3 ID : 6306803787793
 Option 4 ID : 6306803787794
 Status : Answered
 Chosen Option : 1
 Marks : 1

Comprehension:

ਹੇਠ ਲਿਖੇ ਪੈਰੇ ਨੂੰ ਪੜ੍ਹੋ ਅਤੇ ਬਾਅਦ ਵਿੱਚ ਪੁੱਛੇ ਗਏ ਪ੍ਰਸ਼ਨਾਂ ਦੇ ਉੱਤਰ ਦਿਉ।
ਗੁਰੂ ਗੋਬਿੰਦ ਸਿੰਘ ਜੀ ਮਨੁੱਖ ਦੀ ਏਕਤਾ ਵਿੱਚ ਵਿਸ਼ਵਾਸ ਰੱਖਦੇ ਸਨ। ਆਪ ਦੀ ਲੜਾਈ ਜ਼ਾਲਿਮ ਤੇ ਜਾਬਰ ਵਿਰੁੱਧ ਸੀ। ਇਹੋ ਹੀ ਕਾਰਨ ਹੈ ਕਿ ਹਰ ਫ਼ਿਰਕੇ ਦੇ ਯੋਧੇ ਆਪ ਦੀ ਸੈਨਾ ਵਿੱਚ ਫ਼ੌਜੀ ਅਫ਼ਸਰ ਦੀ ਪਦਵੀ ਨੂੰ ਗ੍ਰਹਿਣ ਕਰਕੇ ਜ਼ੁਲਮ ਦਾ ਟਾਕਰਾ ਕਰਨ ਲਈ ਫ਼ਖਰ ਮਹਿਸੂਸ ਕਰਦੇ ਸਨ। ਪੀਰ ਬੁੱਧੂ ਸ਼ਾਹ ਦਾ ਆਪ ਜੀ ਦੀ ਸੈਨਾ ਵਿੱਚ ਸ਼ਾਮਲ ਹੋਣਾ ਇੱਕ ਪ੍ਰਮੁੱਖ ਪ੍ਰਮਾਣ ਹੈ। ਬਹੁਤ ਸਾਰੇ ਹਿੰਦੂ ਕਵੀਆਂ ਦੀ ਸਰਪ੍ਰਸਤੀ ਵੀ ਆਪ ਜੀ ਨੇ ਕੀਤੀ। ਆਪ ਜੀ ਦਾ ਸਾਰਾ ਜੀਵਨ ਹੀ ਜੰਗਾਂ-ਯੁੱਧਾਂ ਤੇ ਜਦੋਂ-ਜਹਿਦ ਵਿੱਚ ਲੰਘਿਆ। ਪਹਾੜੀ ਰਾਜਿਆਂ ਅਤੇ ਮੁਗਲ ਬਾਦਸ਼ਾਹਾਂ ਨਾਲ ਆਪ ਜੀ ਨੇ ਲੋਹਾ ਲਿਆ। ਮੁੱਠੀ ਭਰ ਖਾਲਸਾ ਫ਼ੌਜਾਂ ਵਿੱਚ ਆਪ ਨੇ ਅਜਿਹੀ ਸਪਿਰਟ ਭਰ ਦਿੱਤੀ ਜੋ ਕਿ ਵੈਰੀਆਂ ਦੇ ਲੱਖਾਂ ਦੀ ਗਿਣਤੀ ਦੇ ਦਲਾਂ ਉੱਤੇ ਭਾਰੂ ਸਾਬਤ ਹੋਈ।

SubQuestion No : 95

Q.95 ਗੁਰੂ ਗੋਬਿੰਦ ਸਿੰਘ ਜੀ ਦੀ ਲੜਾਈ ਕਿਸ ਦੇ ਵਿਰੁੱਧ ਸੀ?

- Ans 1. ਜ਼ਾਲਮ ਤੇ ਜਾਬਰ ਵਿਰੁੱਧ
 2. ਪਹਾੜੀ ਰਾਜਿਆਂ ਵਿਰੁੱਧ
 3. ਪਠਾਣਾਂ ਵਿਰੁੱਧ
 4. ਤਤਕਾਲੀਨ ਹਕੂਮਤ ਵਿਰੁੱਧ

Question ID : 630680965823
Option 1 ID : 6306803787789
Option 2 ID : 6306803787788
Option 3 ID : 6306803787787
Option 4 ID : 6306803787790
Status : Answered
Chosen Option : 1
Marks : 1

Section : Digital Literacy and Awareness

Q.96 ISP ਇੰਟਰਨੈਟ ਐਕਸੈਸ ਤਕਨੀਕਾਂ ਦਾ ਪੂਰਨ ਰੂਪ ਕੀ ਹੈ?

- Ans 1. ਇੰਟਰਨੈਟ ਸਰਵਿਸ ਪ੍ਰੋਵਾਈਡਰ (Internet Service Provider)
 2. ਇਨਫੋਰਮੇਸ਼ਨ ਸਰਵਿਸ ਪ੍ਰੋਵਾਈਡਰ (Information Service Provider)
 3. ਇੰਟਰਨੈਟ ਸਿਸਟਮ ਪ੍ਰੋਵਾਈਡਰ (Internet System Provider)
 4. ਇੰਟਰਨੈਟ ਸਰਵਿਸ ਪ੍ਰੋਟੋਕੋਲ (Internet Service Protocol)

Question ID : 630680806545
Option 1 ID : 6306803159807
Option 2 ID : 6306803159804
Option 3 ID : 6306803159806
Option 4 ID : 6306803159805
Status : Answered
Chosen Option : 1
Marks : 1

Q.97 ਹੇਠ ਲਿਖੀਆਂ ਵਿੱਚੋਂ ਕਿਹੜਾ ਈਮੇਲਾਂ ਨੂੰ ਸ਼ਡਿਊਲ ਕਰਨ ਦਾ ਇੱਕ ਲਾਭ ਹੈ?

- Ans 1. ਸਮਾਂ ਪ੍ਰਬੰਧਨ (Time management)
2. ਵਧਿਆ ਜਵਾਬ ਸਮਾਂ (Increased response time)
3. ਤੁਰੰਤ ਡਿਲੀਵਰੀ (Immediate delivery)
4. ਘਟਿਆ ਇਨਬਾਕਸ ਕਲਟਰ (Reduced inbox clutter)

Question ID : 630680790351
 Option 1 ID : 6306803097185
 Option 2 ID : 6306803097187
 Option 3 ID : 6306803097184
 Option 4 ID : 6306803097186
 Status : Answered
 Chosen Option : 2
 Marks : 0

Q.98 ਹੇਠਾਂ ਦਿੱਤੇ ਕਥਨਾਂ ਵਿੱਚੋਂ ਕਿਹੜਾ/ਕਿਹੜੇ ਸਹੀ ਹੈ/ਹਨ?

ਕਥਨ A: ALU ਅੰਕ-ਗਣਿਤਕ (arithmetic) ਅਤੇ ਤਰਕਸੰਗਤ (logical) ਦੋਵੇਂ ਤਰ੍ਹਾਂ ਦੀਆਂ ਕਿਰਿਆਵਾਂ ਕਰ ਸਕਦਾ ਹੈ।

ਕਥਨ B: CPU ਦੀ ਵਰਤੋਂ ਡੇਟਾ ਜਾਂ ਜਾਣਕਾਰੀ ਨੂੰ ਪ੍ਰੋਸੈਸ ਕਰਨ, ਡਿਸਪਲੇ ਕਰਨ ਅਤੇ ਸਟੋਰ ਕਰਨ ਲਈ ਕੀਤੀ ਜਾਂਦੀ ਹੈ।

- Ans 1. ਨਾ ਤਾਂ ਕਥਨ A ਅਤੇ ਨਾ ਹੀ B ਸਹੀ ਹੈ
2. ਸਿਰਫ਼ ਕਥਨ B ਸਹੀ ਹੈ
3. ਕਥਨ A ਅਤੇ B ਦੋਵੇਂ ਸਹੀ ਹਨ
4. ਸਿਰਫ਼ ਕਥਨ A ਸਹੀ ਹੈ

Question ID : 630680784122
 Option 1 ID : 6306803072817
 Option 2 ID : 6306803072815
 Option 3 ID : 6306803072816
 Option 4 ID : 6306803072814
 Status : Answered
 Chosen Option : 2
 Marks : 0

Q.99 ਮਾਈਕਰੋਸਾਫਟ ਪਾਵਰਪੁਆਇੰਟ ਵਿੱਚ ਹੇਠ ਲਿਖੀਆਂ ਟੈਬਾਂ ਵਿੱਚੋਂ ਕਿਸ ਨੂੰ ਸਲਾਈਡਾਂ ਵਿੱਚ ਹੌਡਰ ਅਤੇ ਫੁੱਟਰ ਜੋੜਨ ਲਈ ਵਰਤਿਆ ਜਾਣਾ ਚਾਹੀਦਾ ਹੈ?

- Ans 1. ਡਿਜ਼ਾਇਨ (Design)
2. ਰਿਵੀਊ (Review)
3. ਇਨਸਰਟ (Insert)
4. ਹੋਮ (Home)

Question ID : 630680796768
 Option 1 ID : 6306803122033
 Option 2 ID : 6306803122034
 Option 3 ID : 6306803122032
 Option 4 ID : 6306803122031
 Status : Answered
 Chosen Option : 4
 Marks : 0

Q.100 ਕਿਹੜਾ ਬਟਨ ਮੇਲ ਮਰਜ ਪ੍ਰਕਿਰਿਆ ਨੂੰ ਪੂਰਾ ਕਰਦਾ ਹੈ?

- Ans 1. ਫਿਨਿਸ਼ & ਮਰਜ (Finish & Merge)
 2. ਮਰਜ ਡਾਕੂਮੈਂਟਸ (Merge Documents)
 3. ਕ੍ਰੀਏਟ ਮਰਜ (Create Merge)
 4. ਕੰਪਲੀਟ ਮਰਜ (Complete Merge)

Question ID : 630680816181
Option 1 ID : 6306803197660
Option 2 ID : 6306803197659
Option 3 ID : 6306803197662
Option 4 ID : 6306803197661
Status : Answered
Chosen Option : 1
Marks : 1

Section : Qualifying Paper of Punjabi Language

Q.1 ਪੜਦਾਦਾ ਵਿਚ ਕਿਹੜਾ ਅਗੇਤਰ ਵਰਤਿਆ ਗਿਆ ਹੈ?

- Ans 1. ਪੜ੍ਹ
 2. ਪੜਦ
 3. ਪੜ
 4. ਪੜਦਾ

Question ID : 630680967203
Option 1 ID : 6306803793276
Option 2 ID : 6306803793278
Option 3 ID : 6306803793277
Option 4 ID : 6306803793279
Status : Answered
Chosen Option : 4
Marks : 0

Q.2 ਪੰਜਾਬੀ ਸ਼ਬਦ ਦਾ ਇਸਤਰੀ ਲਿੰਗ ਸ਼ਬਦ ਚੁਣੋ।

- Ans 1. ਪਨਜਾਬਨ
 2. ਪੰਜਾਬਨ
 3. ਪੰਜਾਬਣ
 4. ਪਣਜਾਬੀਅਨ

Question ID : 630680967094
Option 1 ID : 6306803792842
Option 2 ID : 6306803792843
Option 3 ID : 6306803792840
Option 4 ID : 6306803792841
Status : Answered
Chosen Option : 3
Marks : 1

Q.3 ਹੇਠ ਲਿਖੇ ਹਫਤੇ ਦੇ ਦਿਨ ਦਾ ਸ਼ੁੱਧ ਪੰਜਾਬੀ ਰੂਪ ਕਿਹੜਾ ਹੈ?

- Ans 1. ਸੋਮਵਾਰ
 2. ਸੋਮਵਾਂਰ
 3. ਸੌਮਵਾਰ
 4. ਸੌਮਬਾਰ

Question ID : 630680967759

Option 1 ID : 6306803795527

Option 2 ID : 6306803795529

Option 3 ID : 6306803795528

Option 4 ID : 6306803795530

Status : Answered

Chosen Option : 1

Marks : 1

Q.4 'ਉੱਚਾ' ਦਾ ਵਿਰੋਧੀ ਸ਼ਬਦ ਹੈ?

- Ans 1. ਥੱਲੇ
 2. ਹੇਠਾਂ
 3. ਢਾਲੂ
 4. ਨੀਵਾਂ

Question ID : 630680967238

Option 1 ID : 6306803793417

Option 2 ID : 6306803793416

Option 3 ID : 6306803793419

Option 4 ID : 6306803793418

Status : Answered

Chosen Option : 4

Marks : 1

Q.5 ਹਫ਼ਤੇ ਦਾ ਪਹਿਲਾ ਦਿਨ ਹੈ -

- Ans 1. ਮੰਗਲਵਾਰ
 2. ਸੋਮਵਾਰ
 3. ਐਤਵਾਰ
 4. ਸ਼ਨੀਵਾਰ

Question ID : 630680967461

Option 1 ID : 6306803794313

Option 2 ID : 6306803794314

Option 3 ID : 6306803794312

Option 4 ID : 6306803794315

Status : Answered

Chosen Option : 2

Marks : 1

Q.6 ਜੇ ਨਾਂਵ ਉਹਨਾਂ ਵਸਤੂਆਂ ਜਾਂ ਭਾਵਾਂ ਲਈ ਵਰਤੇ ਜਾਂਦੇ ਹਨ ਜੋ ਬਿਨਾਂ ਆਕਾਰ ਦੇ ਹੁੰਦੇ ਹਨ ਉਸ ਨੂੰ ਕੀ ਕਿਹਾ ਜਾਂਦਾ ਹੈ?

- Ans 1. ਭਾਵਵਾਚਕ ਨਾਂਵ
 2. ਖਾਸ ਨਾਂਵ
 3. ਆਮ ਨਾਂਵ
 4. ਵਸਤੂਵਾਚਕ ਨਾਂਵ

Question ID : 630680967138

Option 1 ID : 6306803793019

Option 2 ID : 6306803793018

Option 3 ID : 6306803793016

Option 4 ID : 6306803793017

Status : Answered

Chosen Option : 1

Marks : 1

Q.7 ਸੋਟੀ ਸ਼ਬਦ ਦਾ ਬਹੁਵਚਨ ਰੂਪ ਚੁਣੋ :-

- Ans 1. ਸੋਟੀਆਂ
 2. ਸੋਟਾ
 3. ਸੋਟੇ
 4. ਸੋਟਿਆਂ

Question ID : 630680966813

Option 1 ID : 6306803791718

Option 2 ID : 6306803791719

Option 3 ID : 6306803791716

Option 4 ID : 6306803791717

Status : Answered

Chosen Option : 1

Marks : 1

Q.8 ਜੇ ਪੁਲਿੰਗ ਨਾਂਵ ਦੇ ਅੰਤ ਵਿਚ ਕੰਨਾ ਨਾ ਹੋਵੇ ਤਾਂ:-

- Ans 1. ਵਚਨ ਬਦਲੀ ਵਿਚ ਤਬਦੀਲੀ ਅੰਸ਼ਿਕ ਹੋਵੇਗੀ
 2. ਵਚਨ ਬਦਲੀ ਵਿਚ ਤਬਦੀਲੀ ਨਹੀਂ ਹੋਵੇਗੀ
 3. ਵਚਨ ਬਦਲੀ ਵਿਚ ਤਬਦੀਲੀ ਹੋਵੇਗੀ
 4. ਵਚਨ ਬਦਲੀ ਵਿਚ ਤਬਦੀਲੀ ਸਥਿਤੀ ਅਨੁਸਾਰ ਹੋਵੇਗੀ

Question ID : 630680967495

Option 1 ID : 6306803794450

Option 2 ID : 6306803794449

Option 3 ID : 6306803794448

Option 4 ID : 6306803794451

Status : Answered

Chosen Option : 4

Marks : 0

Q.9 ਹੇਠ ਲਿਖਿਆਂ ਵਿੱਚੋਂ ਕਿਹੜਾ ਅਸੁੱਧ ਵਾਕ ਹੈ?

- Ans 1. ਤੁਹਾਡਾ ਕੀ ਹਾਲ ਹੈ?
 2. ਕਾਸ਼! ਅਸੀਂ ਮੈਚ ਜਿੱਤ ਜਾਂਦੇ।
 3. ਹੋਰ ਸੁਣਾਓ, ਕੀ ਹਾਲ ਹੈ?
 4. ਰੋਕੋ, ਨਾ ਜਾਣ ਦਿਓ।

Question ID : 630680967504

Option 1 ID : 6306803794484

Option 2 ID : 6306803794487

Option 3 ID : 6306803794485

Option 4 ID : 6306803794486

Status : Answered

Chosen Option : 1

Marks : 1

Q.10 ਜਦੋਂ ਇਕਵਚਨ ਪੁਲਿੰਗ ਸ਼ਬਦ ਦੇ ਅੰਤ ਵਿੱਚ ਕੰਨਾ (ਆ) ਹੋਵੇ, ਉਸ ਦੇ ਬਹੁਵਚਨ ਅੰਤ ਵਾਲੇ ਕੰਨੇ ਦੀ ਥਾਂ ਕਿਹੜੀ ਮਾਤਰਾ ਲੱਗਦੀ ਹੈ?

- Ans 1. ਦੁਲਾਵਾਂ (ਐ)
 2. ਲਾਂ (ਏ)
 3. ਬਿਹਾਰੀ (ਈ)
 4. ਸਿਹਾਰੀ (ਇ)

Question ID : 630680967157

Option 1 ID : 6306803793093

Option 2 ID : 6306803793092

Option 3 ID : 6306803793095

Option 4 ID : 6306803793094

Status : Answered

Chosen Option : 4

Marks : 0

Q.11 ਨਿਮਨ ਦਿੱਤੇ ਵਿਕਲਪਾਂ ਵਿੱਚੋਂ ਸੁੱਧ ਵਾਕ ਬਣਤਰ ਦੀ ਚੋਣ ਕਰੋ।

- Ans 1. ਮਾਂ ਨੇ ਪੁੱਤ ਨੂੰ ਰੋਟੀ ਖਵਾਈ।
 2. ਮਾਂ ਨੇ ਰੋਟੀ ਖਵਾਈ ਪੁੱਤ ਨੂੰ।
 3. ਰੋਟੀ ਖਵਾਈ ਪੁੱਤ ਨੂੰ ਮਾਂ ਨੇ।
 4. ਖਵਾਈ ਰੋਟੀ ਮਾਂ ਨੂੰ ਪੁੱਤ ਨੇ।

Question ID : 630680967099

Option 1 ID : 6306803792861

Option 2 ID : 6306803792860

Option 3 ID : 6306803792862

Option 4 ID : 6306803792863

Status : Answered

Chosen Option : 1

Marks : 1

Q.12 ਹੇਠ ਲਿਖੇ ਵਿਕਲਪਾਂ ਵਿੱਚੋਂ 'ਉਦਾਸੀ' ਦੇ ਵਿਰੋਧੀ ਸ਼ਬਦ ਦੀ ਚੋਣ ਕਰੋ।

- Ans
- 1. ਆਸ਼ਾ
 - 2. ਖੇੜਾ
 - 3. ਪਿਆਸ
 - 4. ਨਿਰਾਸ਼ਾ

Question ID : 630680966908
 Option 1 ID : 6306803792098
 Option 2 ID : 6306803792096
 Option 3 ID : 6306803792097
 Option 4 ID : 6306803792099
 Status : Answered
 Chosen Option : 4
 Marks : 0

Q.13 ਮਾਮਾ ਸ਼ਬਦ ਦਾ ਇਸਤਰੀ ਲਿੰਗ ਕੀ ਹੈ?

- Ans
- 1. ਮਾਮੀ
 - 2. ਔਰਤ
 - 3. ਤੀਵੀਂ
 - 4. ਰਾਣੀ

Question ID : 630680967210
 Option 1 ID : 6306803793307
 Option 2 ID : 6306803793306
 Option 3 ID : 6306803793305
 Option 4 ID : 6306803793304
 Status : Answered
 Chosen Option : 1
 Marks : 1

Q.14 ਖ਼ਾਸ ਨਾਂਵ ਚੁਣੋ।

- Ans
- 1. ਗੁਰੂ ਨਾਨਕ ਦੇਵ ਜੀ
 - 2. ਖੁਸ਼ੀ
 - 3. ਅਧਿਆਪਕ
 - 4. ਢੇਰ

Question ID : 630680966844
 Option 1 ID : 6306803791842
 Option 2 ID : 6306803791841
 Option 3 ID : 6306803791840
 Option 4 ID : 6306803791843
 Status : Answered
 Chosen Option : 1
 Marks : 1

Q.15 'दुखिदी' ਦੀ ਵਰਤੋਂ ਹੁੰਦੀ ਹੈ:

- Ans
- 1. ਜਦੋਂ ਵਾਕ ਦੇ ਦੋ ਹਿੱਸੇ ਹੋਣ।
 - 2. ਜਦੋਂ ਵਾਕ ਵਿਚ ਸਵਾਲ ਪੁੱਛਿਆ ਗਿਆ ਹੋਵੇ।
 - 3. ਜਦੋਂ ਵਾਕ ਪੂਰਾ ਹੋਵੇ।
 - 4. ਜਦੋਂ ਵਾਕ ਵਿਚ ਇਕ ਤੋਂ ਵੱਧ ਲਿੰਗ ਹੋਣ।

Question ID : 630680967267

Option 1 ID : 6306803793533

Option 2 ID : 6306803793535

Option 3 ID : 6306803793532

Option 4 ID : 6306803793534

Status : Answered

Chosen Option : 2

Marks : 0

Q.16 'Agonies' ਸ਼ਬਦ ਦਾ ਸਹੀ ਪੰਜਾਬੀ ਅਨੁਵਾਦ ਕਿਹੜਾ ਹੈ?

- Ans
- 1. ਸਮਾਨਤਾ
 - 2. ਲਾਭਕਾਰੀ
 - 3. ਆਰਾਮ
 - 4. ਪੀੜ

Question ID : 630680967170

Option 1 ID : 6306803793147

Option 2 ID : 6306803793145

Option 3 ID : 6306803793144

Option 4 ID : 6306803793146

Status : Answered

Chosen Option : 1

Marks : 0

Q.17 ਖ਼ਰਬੂਜ਼ੇ ਨੂੰ ਦੇਖ ਕੇ ___ ਰੰਗ ਫੜਦਾ ਹੈ।

- Ans
- 1. ਚਾਫੂ
 - 2. ਤਰਬੂਜ਼
 - 3. ਪਾਣੀ
 - 4. ਖ਼ਰਬੂਜ਼ਾ

Question ID : 630680967373

Option 1 ID : 6306803793962

Option 2 ID : 6306803793963

Option 3 ID : 6306803793960

Option 4 ID : 6306803793961

Status : Answered

Chosen Option : 4

Marks : 1

Q.18 ਕਿਰਿਆ ਦੀਆਂ ਕਿੰਨੀਆਂ ਕਿਸਮਾਂ ਹਨ?

- Ans
- 1. ਤਿੰਨ
 - 2. ਐੱਠ
 - 3. ਸੱਤ
 - 4. ਛੇ

Question ID : 630680967302
 Option 1 ID : 6306803793675
 Option 2 ID : 6306803793674
 Option 3 ID : 6306803793672
 Option 4 ID : 6306803793673

Status : Answered
 Chosen Option : 4
 Marks : 0

Q.19 Friday ਦਾ ਸ਼ੁੱਧ ਪੰਜਾਬੀ ਰੂਪ ਹੈ?

- Ans
- 1. ਜੁਮਾ
 - 2. ਸੱਕਰਵਾਰ
 - 3. ਸੁੱਕਰਵਾਰ
 - 4. ਸੁੱਕਰਵਾਰ

Question ID : 630680967279
 Option 1 ID : 6306803793580
 Option 2 ID : 6306803793583
 Option 3 ID : 6306803793582
 Option 4 ID : 6306803793581

Status : Answered
 Chosen Option : 4
 Marks : 1

Q.20 'ਮੁੰਡਾ' ਸ਼ਬਦ ਦਾ ਵਚਨ ਬਦਲੋ।

- Ans
- 1. ਮੁੰਡੇ
 - 2. ਮੁੰਡੀਆਂ
 - 3. ਮੁੰਡਿਆਂ
 - 4. ਮੁੰਡਿਓ

Question ID : 630680966862
 Option 1 ID : 6306803791915
 Option 2 ID : 6306803791913
 Option 3 ID : 6306803791912
 Option 4 ID : 6306803791914

Status : Answered
 Chosen Option : 1
 Marks : 1

Q.21 ਇਨ੍ਹਾਂ ਵਿੱਚੋਂ ਕਿਹੜਾ ਵਚਨ ਬਦਲੇ ਦੀ ਉਦਾਹਰਨ ਹੈ?

- Ans
- 1. ਚਾਚਾ-ਚਾਚੀ
 - 2. ਮਾਸੜ-ਮਾਸੀ
 - 3. ਦਵਾਤ-ਦਵਾਤਾਂ
 - 4. ਰਾਜਾ-ਰਾਣੀ

Question ID : 630680967206

Option 1 ID : 6306803793289

Option 2 ID : 6306803793290

Option 3 ID : 6306803793291

Option 4 ID : 6306803793288

Status : Answered

Chosen Option : 3

Marks : 1

Q.22 ਕਾਲ ਵਾਚਕ ਕਿਰਿਆ ਵਿਸ਼ੇਸ਼ਣ, ਕਿਰਿਆ ਦਾ ਕੀ ਦੱਸਦੇ ਹਨ?

- Ans
- 1. ਭਾਵ
 - 2. ਨਤੀਜਾ
 - 3. ਸਮਾਂ
 - 4. ਗਿਣਤੀ

Question ID : 630680967384

Option 1 ID : 6306803794006

Option 2 ID : 6306803794004

Option 3 ID : 6306803794005

Option 4 ID : 6306803794007

Status : Answered

Chosen Option : 3

Marks : 1

Q.23 ਹੇਠ ਲਿਖਿਆਂ ਵਿੱਚੋਂ ਨਾਂਵ ਸ਼ਬਦ ਚੁਣੋ:

- Ans
- 1. ਮੈਂ
 - 2. ਅਸੀਂ
 - 3. ਟੀਮ
 - 4. ਕੌਣ

Question ID : 630680967723

Option 1 ID : 6306803795386

Option 2 ID : 6306803795383

Option 3 ID : 6306803795384

Option 4 ID : 6306803795385

Status : Answered

Chosen Option : 3

Marks : 1

Q.24 ਵਾਕ ਵਿਚ ਸੰਬੰਧਮਾਨ ਸ਼ਬਦ ਕਦੋਂ ਆਉਂਦਾ ਹੈ?

- Ans
- 1. ਸੰਬੰਧਕਾਂ ਤੋਂ ਪਹਿਲਾਂ
 - 2. ਸੰਬੰਧਕਾਂ ਤੋਂ ਪਿਛੋਂ
 - 3. ਵਾਕ ਦੇ ਅਖੀਰ ਵਿਚ
 - 4. ਵਾਕ ਦੇ ਸ਼ੁਰੂ ਵਿਚ

Question ID : 630680967486
 Option 1 ID : 6306803794412
 Option 2 ID : 6306803794413
 Option 3 ID : 6306803794415
 Option 4 ID : 6306803794414
 Status : Answered
 Chosen Option : 3
 Marks : 0

Q.25 'ਪਤਾ ਨਹੀਂ, ਹੋਰ ਕਿੰਨੀ ਦੂਰ ਜਾਣਾ ਹੈ' ਵਾਕ ਅੰਤ ਵਿਚ ਕਿਹੜਾ ਵਿਸਰਾਮ ਚਿੰਨ੍ਹ ਲੱਗੇਗਾ?

- Ans
- 1. :
 - 2. |
 - 3. ,
 - 4. ?

Question ID : 630680967447
 Option 1 ID : 6306803794259
 Option 2 ID : 6306803794257
 Option 3 ID : 6306803794258
 Option 4 ID : 6306803794256
 Status : Answered
 Chosen Option : 4
 Marks : 0

Q.26 '.....ਰੇਸ਼ਮ ਦਾ ਬਖੀਆ' ਉਪਰੋਕਤ ਅਖਾਣ ਪੂਰੀ ਕਰੋ।

- Ans
- 1. ਟਾਟ ਦੀ ਜੁੱਲੀ
 - 2. ਘਰ ਦਾ ਜੋਗੀ
 - 3. ਮਨ ਹਰਾਮੀ
 - 4. ਪੱਗ ਵੇਚ ਕੇ

Question ID : 630680967021
 Option 1 ID : 6306803792549
 Option 2 ID : 6306803792551
 Option 3 ID : 6306803792550
 Option 4 ID : 6306803792548
 Status : Answered
 Chosen Option : 1
 Marks : 1

Q.27 'ਸਾਲ' ਪਿਛੇਤਰ ਵਾਲਾ ਸਹੀ ਸ਼ਬਦ ਚੁਣੋ।

- Ans 1. ਟਕਸਾਲ
 2. ਪਰਸਾਲ
 3. ਬਰਸਾਲ
 4. ਗੁਰੂਸਾਲ

Question ID : 630680967390
 Option 1 ID : 6306803794029
 Option 2 ID : 6306803794030
 Option 3 ID : 6306803794031
 Option 4 ID : 6306803794028

Status : Answered
 Chosen Option : 1
 Marks : 1

Q.28 ਹੇਠ ਦਿੱਤੇ ਸ਼ਬਦਾਂ ਵਿੱਚੋਂ ਬਹੁ-ਵਚਨ ਦੀ ਚੋਣ ਕਰੋ।

- Ans 1. ਕਲਮਾਂ, ਅੱਖਾਂ, ਕਥਾਵਾਂ, ਗਾਜਰਾਂ
 2. ਚਿੱਟਾ, ਖੇਤਾ, ਕੁੜੀ, ਮੁੰਡੇ
 3. ਬਲ, ਰੂਹਾਂ, ਮੱਝਾਂ, ਸਲੇਟ
 4. ਪੁਸਤਕ, ਗੋਦਾਂ, ਮੇਖ, ਰਾਜੇ

Question ID : 630680967263
 Option 1 ID : 6306803793517
 Option 2 ID : 6306803793516
 Option 3 ID : 6306803793519
 Option 4 ID : 6306803793518

Status : Answered
 Chosen Option : 1
 Marks : 1

Q.29 ਜਿਹਨਾਂ ਮੂਲ ਸ਼ਬਦਾਂ ਦੇ ਅੱਗੇ ਕੋਈ ਅੱਖਰ ਜਾਂ ਚਿੰਨ੍ਹ ਲੱਗ ਕੇ ਨਵੇਂ ਸ਼ਬਦ ਦੀ ਉੱਤਪਤੀ ਕਰਦਾ ਹੋਵੇ, ਉਸ ਨੂੰ ਕੀ ਕਿਹਾ ਜਾਂਦਾ ਹੈ?

- Ans 1. ਰੂਪੰਤਰੀ ਪਿਛੇਤਰ
 2. ਪਿਛੇਤਰ
 3. ਮਧੇਤਰ
 4. ਅਗੇਤਰ

Question ID : 630680967152
 Option 1 ID : 6306803793075
 Option 2 ID : 6306803793073
 Option 3 ID : 6306803793074
 Option 4 ID : 6306803793072

Status : Answered
 Chosen Option : 4
 Marks : 1

Q.30 ਹੇਠ ਲਿਖਿਆਂ ਵਿੱਚੋਂ ਸ਼ੁੱਧ ਵਾਕ ਚੁਣੋ।

- Ans 1. ਮੁੰਡੇ ਨੇ ਗੀਤ ਗਾਇਆ।
 2. ਕੁੜੀ ਨੂੰ ਗੀਤ ਗਾਏ।
 3. ਮੁੰਡਾ ਨੇ ਗੀਤ ਗਾਇਆ।
 4. ਕੁੜੀ ਨੇ ਗੀਤ ਗਾਈ।

Question ID : 630680966822
 Option 1 ID : 6306803791753
 Option 2 ID : 6306803791755
 Option 3 ID : 6306803791752
 Option 4 ID : 6306803791754
 Status : Answered
 Chosen Option : 1
 Marks : 1

Q.31 ਵਾਕ ਵਿੱਚਦੀ ਵਿਸ਼ੇਸ਼ਤਾ ਪ੍ਰਗਟ ਕਰਨ ਵਾਲੇ ਸ਼ਬਦਾਂ ਨੂੰ ਕਿਰਿਆ ਵਿਸ਼ੇਸ਼ਣ ਆਖਦੇ ਹਨ।
 ਉਪਰੋਕਤ ਵਾਕ ਵਿਚਲੇ ਖਾਲੀ ਸਥਾਨ ਨੂੰ ਭਰਨ ਲਈ ਦਿੱਤੇ ਗਏ ਵਿਕਲਪਾਂ ਵਿੱਚੋਂ ਸਹੀ ਉੱਤਰ ਦੀ ਚੋਣ ਕਰੋ।

- Ans 1. ਨਾਵ
 2. ਕਿਰਿਆ
 3. ਯੋਜਕ
 4. ਕਿਰਿਆ-ਵਿਸ਼ੇਸ਼ਣ

Question ID : 630680967081
 Option 1 ID : 6306803792790
 Option 2 ID : 6306803792788
 Option 3 ID : 6306803792791
 Option 4 ID : 6306803792789
 Status : Answered
 Chosen Option : 2
 Marks : 1

Q.32 'ਈਰਖਾਲੂ' ਸ਼ਬਦ ਵਿੱਚ ਕਿਹੜੇ ਪਿਛੇਤਰ ਦੀ ਵਰਤੋਂ ਹੋਈ ਹੈ? ਹੈ?

- Ans 1. ਆਲੂ
 2. ਲੂ
 3. ਲ
 4. ਖਾਲੂ

Question ID : 630680966859
 Option 1 ID : 6306803791903
 Option 2 ID : 6306803791902
 Option 3 ID : 6306803791900
 Option 4 ID : 6306803791901
 Status : Answered
 Chosen Option : 2
 Marks : 1

Q.33 'ਰਾਸ਼ਟਰੀ' ਸ਼ਬਦ ਵਿੱਚ ਲੱਗੇ ਪਿਛੇਤਰ ਦੀ ਚੋਣ ਕਰੋ।

- Ans
- 1. ਆਈ
 - 2. ਟਰੀ
 - 3. ਈ
 - 4. ਆਸ਼ਟਰੀ

Question ID : 630680967089
 Option 1 ID : 6306803792820
 Option 2 ID : 6306803792821
 Option 3 ID : 6306803792823
 Option 4 ID : 6306803792822
 Status : Answered
 Chosen Option : 3
 Marks : 1

Q.34 'Democracy' ਸ਼ਬਦ ਦਾ ਪੰਜਾਬੀ ਅਨੁਵਾਦ ਦੱਸੋ।

- Ans
- 1. ਟਕਸਾਲੀ
 - 2. ਲੋਕਤੰਤਰ
 - 3. ਪ੍ਰਦਰਸ਼ਨ
 - 4. ਸੰਚਾਰ

Question ID : 630680967053
 Option 1 ID : 6306803792679
 Option 2 ID : 6306803792677
 Option 3 ID : 6306803792676
 Option 4 ID : 6306803792678
 Status : Answered
 Chosen Option : 3
 Marks : 0

Q.35 'ਕਿਰਿਆ' ਨਾਲ ਸੰਬੰਧਿਤ ਠੀਕ ਪਰਿਭਾਸ਼ਾ ਦੀ ਚੋਣ ਕਰੋ:-

- Ans
- 1. ਜਿੰਨਾ ਸ਼ਬਦਾਂ ਤੋਂ ਕੰਮ ਦੇ ਹੋਣ ਜਾਂ ਵਾਪਰਨ ਬਾਰੇ ਪਤਾ ਨਾ ਲੱਗੇ।
 - 2. ਜਿਹੜੇ ਸ਼ਬਦ ਸਥਿਤੀ ਦੀਆਂ ਵਿਸ਼ੇਸ਼ਤਾਵਾਂ ਨੂੰ ਬਿਆਨ ਕਰਨ।
 - 3. ਜਿਨ੍ਹਾਂ ਸ਼ਬਦਾਂ ਤੋਂ ਕੰਮ ਦੇ ਹੋਣ ਜਾਂ ਵਾਪਰਨ ਬਾਰੇ ਪਤਾ ਲੱਗੇ।
 - 4. ਜਿਹੜੇ ਸ਼ਬਦ ਕਿਸੇ ਕਿਰਿਆ ਦੇ ਵਿਸ਼ੇਸ਼ ਕੰਮਾਂ ਬਾਰੇ ਦੱਸਣ।

Question ID : 630680967482
 Option 1 ID : 6306803794396
 Option 2 ID : 6306803794399
 Option 3 ID : 6306803794398
 Option 4 ID : 6306803794397
 Status : Answered
 Chosen Option : 3
 Marks : 1

Q.36 ਜਿਹੜੇ ਸ਼ਬਦ ਨਾਂਵ ਜਾਂ ਪੜਨਾਂਵ ਦੀ ਵਿਸ਼ੇਸ਼ਤਾ ਦੱਸਣ, ਉਹਨਾਂ ਨੂੰ ਕੀ ਆਖਦੇ ਹਨ?

- Ans
- 1. ਸਕਰਮਕ ਕਿਰਿਆ
 - 2. ਸੰਬੰਧਕ
 - 3. ਪੜਨਾਂਵ
 - 4. ਵਿਸ਼ੇਸ਼ਣ

Question ID : 630680967078

Option 1 ID : 6306803792776

Option 2 ID : 6306803792777

Option 3 ID : 6306803792779

Option 4 ID : 6306803792778

Status : Answered

Chosen Option : 3

Marks : 0

Q.37 ਹੇਠ ਲਿਖਿਆਂ ਵਿੱਚੋਂ ਕਿਹੜਾ ਇਕ 'ਪਿਛੇਤਰ' ਹੈ:

- Ans
- 1. ਅਲੁ
 - 2. ਉਲੁ
 - 3. ਕੁ
 - 4. ਆਲੂ

Question ID : 630680967596

Option 1 ID : 6306803794861

Option 2 ID : 6306803794862

Option 3 ID : 6306803794863

Option 4 ID : 6306803794860

Status : Answered

Chosen Option : 4

Marks : 1

Q.38 'ਗਰੀਬੀ' ਸ਼ਬਦ ਕਿਸ ਨਾਂਵ ਦੀ ਕਿਸਮ ਹੈ?

- Ans
- 1. ਵਸਤੁਵਾਚਕ ਨਾਂਵ
 - 2. ਭਾਵਵਾਚਕ ਨਾਂਵ
 - 3. ਸਮੂਹਵਾਚਕ ਨਾਂਵ
 - 4. ਜਾਤੀਵਾਚਕ ਨਾਂਵ

Question ID : 630680966965

Option 1 ID : 6306803792326

Option 2 ID : 6306803792324

Option 3 ID : 6306803792325

Option 4 ID : 6306803792327

Status : Answered

Chosen Option : 3

Marks : 0

Q.39 ਇੱਕ ਪੰਥ, ਦੇ _____
(ਅਖਾਣ ਪੁਰਾ ਕਰੋ)

- Ans
- 1. ਰਾਹ
 - 2. ਮੁਸਾਫ਼ਰ
 - 3. ਕਾਜ
 - 4. ਰਾਜ

Question ID : 630680967422
 Option 1 ID : 6306803794156
 Option 2 ID : 6306803794159
 Option 3 ID : 6306803794157
 Option 4 ID : 6306803794158
 Status : Answered
 Chosen Option : 3
 Marks : 1

Q.40 ਹੇਠਾਂ ਦਿੱਤੇ ਮਹੀਨੇ ਦਾ ਨਾਮ ਦਾ ਸ਼ੁੱਧ ਪੰਜਾਬੀ ਰੂਪ ਚੁਣੋ ।

- Ans
- 1. ਚੌਤ
 - 2. ਚੇਤਰ
 - 3. ਚੇਤ
 - 4. ਚੇਤੱਰ

Question ID : 630680966879
 Option 1 ID : 6306803791982
 Option 2 ID : 6306803791981
 Option 3 ID : 6306803791980
 Option 4 ID : 6306803791983
 Status : Answered
 Chosen Option : 3
 Marks : 1

Q.41 ਕਿਸ ਸ਼ਬਦ ਨਾਲ 'ਨੀ' ਪਿਛੇਤਰ ਦੀ ਵਰਤੋਂ ਸਹੀ ਨਹੀਂ ਹੈ?

- Ans
- 1. ਸੰਤਨੀ
 - 2. ਸ਼ੇਰਨੀ
 - 3. ਫ਼ਕੀਰਨੀ
 - 4. ਜਾਦੂਗਰਨੀ

Question ID : 630680966810
 Option 1 ID : 6306803791705
 Option 2 ID : 6306803791707
 Option 3 ID : 6306803791704
 Option 4 ID : 6306803791706
 Status : Answered
 Chosen Option : 1
 Marks : 1

Q.42 ਹੇਠ ਦਿੱਤੇ ਵਿਕਲਪਾਂ ਵਿੱਚੋਂ ਸ਼ੁੱਧ ਸ਼ਬਦ-ਜੋੜ ਚੁਣੋ

- Ans
- 1. ਦਪੈਰਰ
 - 2. ਦੁਪਿਰਰ
 - 3. ਦਪਹਿਰ
 - 4. ਦੁਪਹਿਰ

Question ID : 630680967049

Option 1 ID : 6306803792660

Option 2 ID : 6306803792661

Option 3 ID : 6306803792663

Option 4 ID : 6306803792662

Status : Answered

Chosen Option : 4

Marks : 1

Q.43 ਅੰਕ 28 ਦਾ ਸ਼ੁੱਧ ਪੰਜਾਬੀ ਰੂਪ ਚੁਣੋ।

- Ans
- 1. ਢਾਈ
 - 2. ਅਟਾਈ
 - 3. ਟਾਈ
 - 4. ਅਠਾਈ

Question ID : 630680967408

Option 1 ID : 6306803794101

Option 2 ID : 6306803794103

Option 3 ID : 6306803794102

Option 4 ID : 6306803794100

Status : Answered

Chosen Option : 4

Marks : 1

Q.44 Saturday ਦਾ ਸ਼ੁੱਧ ਪੰਜਾਬੀ ਰੂਪ ਚੁਣੋ।

- Ans
- 1. ਸੈਚਰਡੇ
 - 2. ਗੁਰੂਵਾਰ
 - 3. ਸੈਟਰਡੇ
 - 4. ਸ਼ਨੀਵਾਰ

Question ID : 630680967412

Option 1 ID : 6306803794119

Option 2 ID : 6306803794118

Option 3 ID : 6306803794117

Option 4 ID : 6306803794116

Status : Answered

Chosen Option : 4

Marks : 1

Q.45 ਵਿਸ਼ੇਸ਼ਣ ਦੀਆਂ ਕਿੰਨੀਆਂ ਕਿਸਮਾਂ ਹੁੰਦੀਆਂ ਹਨ?

- Ans 1. 4
 2. 5
 3. 2
 4. 3

Question ID : 630680966920
 Option 1 ID : 6306803792146
 Option 2 ID : 6306803792147
 Option 3 ID : 6306803792144
 Option 4 ID : 6306803792145
 Status : Answered
 Chosen Option : 2
 Marks : 1

Q.46 ਹੇਠ ਦਿੱਤੇ ਵਿਕਲਪਾਂ ਵਿੱਚੋਂ ਸ਼ੁੱਧ ਸ਼ਬਦ ਜੋੜ ਦੀ ਚੋਣ ਕਰੋ।

- Ans 1. ਮੇਨਤ
 2. ਮੇਅਨਤ
 3. ਮੇਹਨਤ
 4. ਮਿਹਨਤ

Question ID : 630680967097
 Option 1 ID : 6306803792854
 Option 2 ID : 6306803792855
 Option 3 ID : 6306803792852
 Option 4 ID : 6306803792853
 Status : Answered
 Chosen Option : 4
 Marks : 1

Q.47 ਆਪੇ ਮੈਂ ਰੱਜੀ ਪੁੰਜੀ, ਆਪੇ ਮੇਰੇ _____ (ਅਖਾਣ ਪੂਰਾ ਕਰੋ)

- Ans 1. ਕਪੜੇ ਸੀਉਣ
 2. ਬੱਚੇ ਜੀਉਣ
 3. ਲਹੂ ਪੀਣ
 4. ਭਰਾ ਜੀਉਣ

Question ID : 630680967579
 Option 1 ID : 6306803794794
 Option 2 ID : 6306803794793
 Option 3 ID : 6306803794795
 Option 4 ID : 6306803794792
 Status : Answered
 Chosen Option : 3
 Marks : 0

Test

Prime

By Adda247

Previous Year Papers PDF

PRACTICE MORE, SCORE HIGHER!



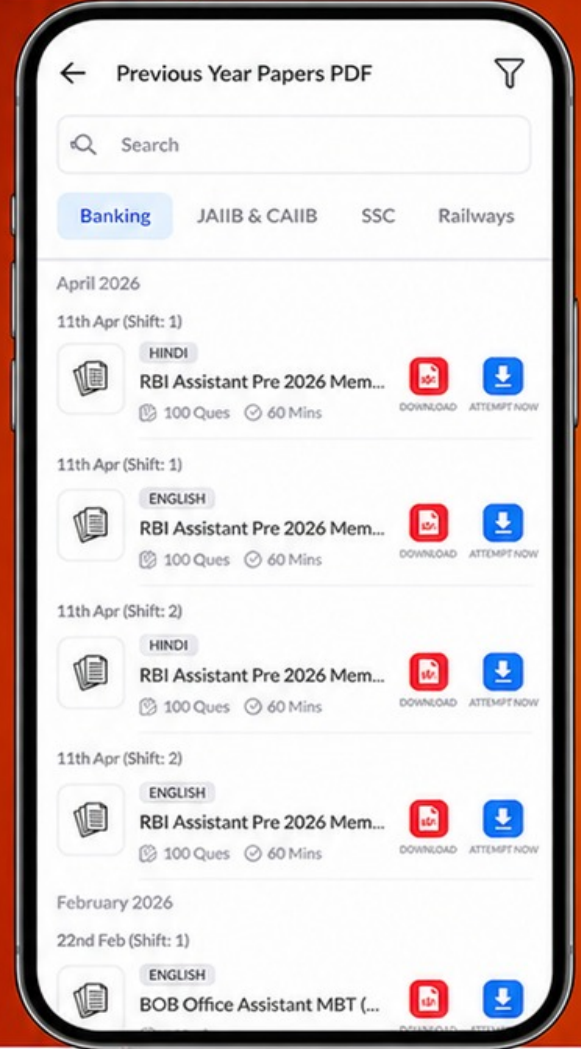
Free
25,000+
PDF's

High-Quality | Exam-Wise | Updated Regularly

ATTEMPT AS
MOCK



Turn PDFs into real exam experience.
Analyze. Improve. Succeed.



Topic-wise & Exam-wise PDFs



Download & Study Offline



Attempt as Mock & Track Score



Smart Analysis & Performance

AVAILABLE IN



Banking



SSC



Railway



Teaching



UGC



Agriculture



Nursing



Bihar



UP



Punjab



WB



Odisha



TN



AP & Telangana



Haryana



DOWNLOAD THE APP



Q.48 ਰੇਤ,ਪੱਥਰ, ਗੁੜ,ਸ਼ੱਕਰ ਕਿਸ ਨਾਂਵ ਦੀਆਂ ਉਦਾਹਰਣਾਂ ਹਨ?

- Ans
- 1. ਵਸਤੁਵਾਚਕ ਨਾਂਵ
 - 2. ਇਕੱਠਵਾਚਕ ਨਾਂਵ
 - 3. ਭਾਵਵਾਚਕ ਨਾਂਵ
 - 4. ਸਮੂਹਵਾਚਕ ਨਾਂਵ

Question ID : 630680966916
 Option 1 ID : 6306803792128
 Option 2 ID : 6306803792130
 Option 3 ID : 6306803792129
 Option 4 ID : 6306803792131

Status : Answered
 Chosen Option : 4
 Marks : 0

Q.49 'Abandon' ਦਾ ਪੰਜਾਬੀ ਅਨੁਵਾਦ ਹੈ।

- Ans
- 1. ਭੱਜ ਜਾਣਾ
 - 2. ਖਾ ਜਾਣਾ
 - 3. ਛੱਡ ਦੇਣਾ
 - 4. ਉਲਝਣ ਪੈਣੀ

Question ID : 630680967661
 Option 1 ID : 6306803795122
 Option 2 ID : 6306803795121
 Option 3 ID : 6306803795120
 Option 4 ID : 6306803795123

Status : Answered
 Chosen Option : 3
 Marks : 1

Q.50 ਬੱਚੇ ਖੇਡਦੇ ਹਨ, ਵਾਕ ਵਿੱਚ ਕਿਹੜੀ ਕਿਰਿਆ ਹੈ?

- Ans
- 1. ਮੁਖ
 - 2. ਸਹਾਇਕ
 - 3. ਅਕਰਮਕ
 - 4. ਸਕਰਮਕ

Question ID : 630680967533
 Option 1 ID : 6306803794602
 Option 2 ID : 6306803794603
 Option 3 ID : 6306803794600
 Option 4 ID : 6306803794601

Status : Answered
 Chosen Option : 1
 Marks : 0