



# PUNJAB POLICE

Police to its last particle is duty

Exam Name	Punjab Police Constable in District and Armed Cadre 4th May to 18th June 2025
Registration Number	
Roll No	
Applicant Name	
Exam Date	29/05/2025
Exam Shift	9:00 AM - 12:00 PM
Subject	CONSTABLE IN DISTRICT AND ARMED CADRE OF PUNJAB POLICE PAPER I AND PAPER II
Candidate Application Photograph	
Candidate Exam Day Photograph	

Section : General Awareness

Test  
Prime

By Adda247

# ALL EXAMS, ONE SUBSCRIPTION



Test. Analyze. Improve. Repeat.



Don't just *prepare*. *Perform*.

Test Prime — built only for mock tests.



1,50,000+  
Mock Tests



25,000+  
Previous Year Papers



800+  
Exam Covered



500% Refund  
on Selection



5 lakh+  
Free Quizzes



Daily  
Free PDFs



Job Alerts  
Stay Updated

- Multilingual
- Detailed Solution
- Strong and Weak Areas



All India  
Rankings

Compete with lakhs.  
Rank. Improve. Repeat.



← Adda247 test prime

Rating ▾

Editors' choice

New



Adda247 Test Prime  
Adda Education • Education  
Installed



DOWNLOAD THE APP



Q.1 ਜਨਵਰੀ 2025 ਵਿੱਚ ਲਾਂਚ ਹੋਈ ਕਿਤਾਬ 'ਪਾਰਲੀਮੈਂਟ: ਪਾਵਰ, ਫੰਕਸ਼ਨਜ਼ ਅੰਡ ਪ੍ਰੀਵਿਲੇਜ਼ : ਏ ਕੰਪੇਰੇਟਿਵ ਕਾਂਸੀਚਿਊਸ਼ਨਲ ਪਰਸਪੈਕਟਿਵ' (Parliament: Powers, Functions and Privileges: A Comparative Constitutional Perspective) ਦੇ ਲੇਖਕ ਕੌਣ ਹਨ?

- Ans
- 1. ਜਗਦੀਪ ਧਨਖੜ
  - 2. ਪ੍ਰੇਮ ਨਰਾਇਣ ਮੋਦੀ
  - 3. ਡਾ ਕੇ.ਐਸ.ਚੌਹਾਨ
  - 4. ਅਮਿਤ ਸ਼ਾਹ

Question ID : 441009108885

Option 1 ID : 441009433353

Option 2 ID : 441009433356

Option 3 ID : 441009433354

Option 4 ID : 441009433355

Status : Marked For Review

Chosen Option : 2

Q.2 In which of the following is trans-fatty acid present naturally, leading to increase in bad cholesterol?

- Ans
- 1. Egg yolks
  - 2. Dairy products
  - 3. Vegetable oil
  - 4. Chicken

Question ID : 441009130351

Option 1 ID : 441009517795

Option 2 ID : 441009517797

Option 3 ID : 441009517796

Option 4 ID : 441009517798

Status : Marked For Review

Chosen Option : 2

Q.3 Which schedule of the Indian Constitution deals with the allocation of seats in the Council of States (Rajya Sabha)?

- Ans
- 1. Sixth Schedule
  - 2. Fifth Schedule
  - 3. Fourth Schedule
  - 4. Seventh Schedule

Question ID : 441009123505

Option 1 ID : 441009490925

Option 2 ID : 441009490924

Option 3 ID : 441009490923

Option 4 ID : 441009490926

Status : Marked For Review

Chosen Option : 4

Q.4 As per provisions made in the Punjab Fire and Emergency Service Act 2024, 'any person who, in any way, wilfully obstructs or interferes with any member of the service who is participating in a response to some emergency, shall be punishable with imprisonment for a term which may extend upto \_\_\_\_\_'.

Ans  1. three months

2. one month

3. two months

4. six months

Question ID : 441009114251

Option 1 ID : 441009454472

Option 2 ID : 441009454470

Option 3 ID : 441009454471

Option 4 ID : 441009454473

Status : Marked For Review

Chosen Option : 3

Q.5 What is a key characteristic of Punjab's hot and dry season?

Ans  1. Presence of a tropical continental air mass, leading to high temperatures and dust storms

2. Persistent cloud cover and moderate temperatures

3. Heavy snowfall due to westerly disturbances

4. Influence of tropical maritime air masses bringing frequent rainfall

Question ID : 441009109014

Option 1 ID : 441009433874

Option 2 ID : 441009433875

Option 3 ID : 441009433876

Option 4 ID : 441009433873

Status : Marked For Review

Chosen Option : 2

Q.6 What percentage of workforce in the state was engaged in agriculture and allied sectors, as per the Punjab Economic Survey 2023-24?

Ans  1. 30%

2. 15%

3. 25%

4. 35%

Question ID : 441009114229

Option 1 ID : 441009454384

Option 2 ID : 441009454382

Option 3 ID : 441009454383

Option 4 ID : 441009454385

Status : Marked For Review

Chosen Option : 2

Q.7 Who among the following Punjabi historians wrote 'Naveen Panth Prakash', an important historical work on Sikh history?

Ans  1. Bhai Santokh Singh

2. Giani Gian Singh

3. Bhai Gurdas

4. Bhai Vir Singh

Question ID : 441009106419

Option 1 ID : 441009423698

Option 2 ID : 441009423696

Option 3 ID : 441009423695

Option 4 ID : 441009423697

Status : Marked For Review

Chosen Option : 2

Q.8 In January 2025, how much financial assistance did Punjab request from the 16<sup>th</sup> Finance Commission to combat narco-terrorism and drug abuse?

Ans  1. ₹8,846 crore

2. ₹7,511 crore

3. ₹5,042 crore

4. ₹10,221 crore

Question ID : 44100994275

Option 1 ID : 441009375076

Option 2 ID : 441009375075

Option 3 ID : 441009375074

Option 4 ID : 441009375077

Status : Marked For Review

Chosen Option : 2

Q.9 ਹੇਠ ਲਿਖਿਆਂ ਵਿੱਚੋਂ ਕਿਹੜਾ ਪ੍ਰਧਾਨ ਮੰਤਰੀ ਸਵਨਿਧੀ ਯੋਜਨਾ (PM SVANidhi scheme) ਬਾਰੇ ਸਹੀ ਹੈ?

Ans  1. ਗਲੀ ਵਿਕਰੇਤਾਵਾਂ ਲਈ ਵਿਸ਼ੇਸ਼ ਮਾਈਕ੍ਰੋ-ਕ੍ਰੈਡਿਟ ਸਹੂਲਤ

2. ਗਲੀਆਂ ਵਿਕਰੇਤਾਵਾਂ ਲਈ ਵਿਸ਼ੇਸ਼ ਹੁਨਰ ਵਿਕਾਸ ਪ੍ਰੋਗਰਾਮ

3. ਗਲੀਆਂ ਵਿਕਰੇਤਾਵਾਂ ਲਈ ਵਿਸ਼ੇਸ਼ ਰਿਹਾਇਸ਼ ਪ੍ਰੋਗਰਾਮ

4. ਗਲੀਆਂ ਵਿਕਰੇਤਾਵਾਂ ਲਈ ਵਿਸ਼ੇਸ਼ ਬੀਮਾ ਪ੍ਰੋਗਰਾਮ

Question ID : 441009108524

Option 1 ID : 441009432024

Option 2 ID : 441009432025

Option 3 ID : 441009432026

Option 4 ID : 441009432027

Status : Marked For Review

Chosen Option : 1

Q.1	What is the committee for planning for big cities called?
0	
Ans	<input type="checkbox"/> 1. Regional planning committee
	<input type="checkbox"/> 2. National planning committee
	<input checked="" type="checkbox"/> 3. Metropolitan planning committee
	<input type="checkbox"/> 4. Village planning committee

Question ID :	441009123271
Option 1 ID :	441009489986
Option 2 ID :	441009489987
Option 3 ID :	441009489985
Option 4 ID :	441009489984
Status :	Marked For Review
Chosen Option :	3

Q.1	In which of the following years did the Nankana Sahib tragedy take place?
1	
Ans	<input type="checkbox"/> 1. 1914
	<input checked="" type="checkbox"/> 2. 1921
	<input type="checkbox"/> 3. 1920
	<input type="checkbox"/> 4. 1918

Question ID :	441009125811
Option 1 ID :	441009499975
Option 2 ID :	441009499972
Option 3 ID :	441009499973
Option 4 ID :	441009499974
Status :	Marked For Review
Chosen Option :	4

Q.1	Which vitamin present in the wheat germ works as an antioxidant?
2	
Ans	<input checked="" type="checkbox"/> 1. Vitamin E
	<input type="checkbox"/> 2. Vitamin B6
	<input type="checkbox"/> 3. Vitamin D
	<input type="checkbox"/> 4. Vitamin A

Question ID :	441009131136
Option 1 ID :	441009521147
Option 2 ID :	441009521149
Option 3 ID :	441009521148
Option 4 ID :	441009521150
Status :	Marked For Review
Chosen Option :	2

Q.1 According to the announcement made by the Government of India in October 2024, when is India expected to have its own space station, known as the 'Bharatiya Antriksh Station'?

Ans  1. 2035

2. 2040

3. 2027

4. 2030

Question ID : 441009120274

Option 1 ID : 441009478140

Option 2 ID : 441009478141

Option 3 ID : 441009478138

Option 4 ID : 441009478139

Status : Not Attempted and Marked For Review

Chosen Option : --

Q.1 ਪੰਜਾਬ ਦੇ ਕਿਹੜੇ ਸ਼ਹਿਰ ਨੂੰ ਇਸਦੇ ਕੱਪੜਾ ਅਤੇ ਹੌਜ਼ਰੀ ਉਦਯੋਗ ਕਾਰਨ 'ਭਾਰਤ ਦਾ ਮਾਨਚੈਸਟਰ' ਕਿਹਾ ਜਾਂਦਾ ਹੈ?

Ans  1. ਪਟਿਆਲਾ

2. ਜਲੰਧਰ

3. ਲੁਧਿਆਣਾ

4. ਅੰਮ੍ਰਿਤਸਰ

Question ID : 441009114075

Option 1 ID : 441009453771

Option 2 ID : 441009453773

Option 3 ID : 441009453770

Option 4 ID : 441009453772

Status : Marked For Review

Chosen Option : 3

Q.1 How does a sound mental health influence self-esteem and confidence?

Ans  1. It causes individuals to avoid social situations.

2. It increases self-esteem and confidence in social situations.

3. It decreases self-esteem.

4. It has no effect on self-esteem or confidence.

Question ID : 441009147029

Option 1 ID : 441009583928

Option 2 ID : 441009583925

Option 3 ID : 441009583926

Option 4 ID : 441009583927

Status : Marked For Review

Chosen Option : 2

Q.1 Which of the following is covered under the First Schedule of the Indian Constitution?  
6

Ans  1. Provisions related to the administration of tribal areas in Assam, Meghalaya, Tripura and Mizoram

2. List of official languages of India

3. Distribution of powers between Union and States

4. Names and territorial extent of Indian States and Union Territories

Question ID : 441009123494

Option 1 ID : 441009490882

Option 2 ID : 441009490879

Option 3 ID : 441009490880

Option 4 ID : 441009490881

Status : Marked For Review

Chosen Option : 3

Q.1 Which of the following factors prolongs the shelf life of non-perishable foods?  
7

Ans  1. They have low water activity, which inhibits microbiological growth.

2. They are high in Vitamin C.

3. They need to be refrigerated at all times.

4. They are very moist, which inhibits microbiological growth.

Question ID : 441009149328

Option 1 ID : 441009593073

Option 2 ID : 441009593074

Option 3 ID : 441009593075

Option 4 ID : 441009593072

Status : Marked For Review

Chosen Option : 4

Q.1 Which sector experienced the largest decline in rural employment share in Punjab from  
8 2011-12 to 2022-23?

Ans  1. Trade

2. Agriculture

3. Services

4. Manufacturing

Question ID : 441009137888

Option 1 ID : 441009547775

Option 2 ID : 441009547772

Option 3 ID : 441009547774

Option 4 ID : 441009547773

Status : Marked For Review

Chosen Option : 2

Q.1 Under which law does a Magistrate in a Subordinate Court have the power to issue search warrants?  
9

Ans  1. Code of Criminal Procedure, 1973

2. Indian Contract Act, 1872

3. Indian Penal Code, 1860

4. Consumer Protection Act, 2019

Question ID : 441009109993

Option 1 ID : 441009437550

Option 2 ID : 441009437552

Option 3 ID : 441009437549

Option 4 ID : 441009437551

Status : Marked For Review

Chosen Option : 3

Q.2 In which of the following Indian states was the 38<sup>th</sup> National Games held in early 2025, with the motto 'Sankalp Se Shikhar Tak'?  
0

Ans  1. Maharashtra

2. Uttarakhand

3. Himachal Pradesh

4. Uttar Pradesh

Question ID : 441009109730

Option 1 ID : 441009436649

Option 2 ID : 441009436652

Option 3 ID : 441009436651

Option 4 ID : 441009436650

Status : Marked For Review

Chosen Option : 4

Q.2 Which schedule of the Indian Constitution contains the list of recognised languages?  
1

Ans  1. Eighth Schedule

2. Ninth Schedule

3. Seventh Schedule

4. Sixth Schedule

Question ID : 441009123512

Option 1 ID : 441009490953

Option 2 ID : 441009490954

Option 3 ID : 441009490952

Option 4 ID : 441009490951

Status : Marked For Review

Chosen Option : 4

Q.2 24 ਸਤੰਬਰ 2024 ਨੂੰ ਸੁਪਰੀਮ ਕੋਰਟ ਦੇ ਫੈਸਲੇ ਦੇ ਅਨੁਸਾਰ, ਸਕੂਲ ਸੁਰੱਖਿਆ ਦਿਸ਼ਾ-ਨਿਰਦੇਸ਼ਾਂ ਦੇ ਨਾਲ ਲਾਗੂ ਕੀਤੇ ਜਾਣ ਵਾਲੇ ਦਿਸ਼ਾ-ਨਿਰਦੇਸ਼ ਵਜੋਂ ਹੇਠ ਲਿਖਿਆਂ ਵਿੱਚੋਂ ਕਿਸ ਦਾ ਜ਼ਿਕਰ ਨਹੀਂ ਕੀਤਾ ਗਿਆ ਸੀ?

- Ans
- 1. ਸੁਰੱਖਿਆ ਅਤੇ ਬਚਾਵ ਬਾਰੇ NCPCR ਦਾ ਵਿਆਪਕ ਮੈਨੂਅਲ (NCPCR' s Comprehensive Manual on Safety and Security)
  - 2. CBSE ਡਿਜੀਟਲ ਲਰਨਿੰਗ ਦਿਸ਼ਾ-ਨਿਰਦੇਸ਼ (CBSE Digital Learning Guidelines)
  - 3. ਵਿਦਿਅਕ ਸੰਸਥਾਵਾਂ ਦੇ ਹੋਸਟਲਾਂ ਲਈ ਦਿਸ਼ਾ-ਨਿਰਦੇਸ਼ (Guidelines for Hostels of Educational Institutions)
  - 4. NDMA ਦੀ ਸਕੂਲ ਸੁਰੱਖਿਆ ਨੀਤੀ (NDMA' s School Safety Policy)

Question ID :	441009108116
Option 1 ID :	441009430484
Option 2 ID :	441009430487
Option 3 ID :	441009430486
Option 4 ID :	441009430485
Status :	Marked For Review
Chosen Option :	2

Q.2 3 ਭਾਰਤੀ ਮੌਸਮ ਵਿਭਾਗ (IMD) ਦੇ ਅਨੁਸਾਰ, ਭਾਰਤ ਲਈ ਹੇਠ ਲਿਖੇ ਸਾਲਾਂ ਵਿੱਚੋਂ ਕਿਹੜਾ ਸਾਲ ਸਭ ਤੋਂ ਗਰਮ ਸੀ?

- Ans
- 1. 2022
  - 2. 2023
  - 3. 2021
  - 4. 2024

Question ID :	441009108353
Option 1 ID :	441009431396
Option 2 ID :	441009431395
Option 3 ID :	441009431397
Option 4 ID :	441009431394
Status :	Marked For Review
Chosen Option :	4

Q.2 4 ਪੰਜਾਬ ਰਵਾਇਤੀ ਤੌਰ 'ਤੇ ਕਿਹੜੇ ਤਿੰਨ ਖੇਤਰਾਂ ਵਿੱਚ ਵੰਡਿਆ ਹੋਇਆ ਹੈ?

- Ans
- 1. ਮਾਝਾ, ਦੁਆਬਾ, ਮਾਲਵਾ
  - 2. ਦੁਆਬਾ, ਅਵਧ, ਮਾਝਾ
  - 3. ਮਾਝਾ, ਰੋਹੀਲਖੰਡ, ਮਾਲਵਾ
  - 4. ਮਾਲਵਾ, ਉੱਦੇਲਖੰਡ, ਦੁਆਬਾ

Question ID :	441009100930
Option 1 ID :	441009401731
Option 2 ID :	441009401733
Option 3 ID :	441009401730
Option 4 ID :	441009401732
Status :	Marked For Review
Chosen Option :	1

Q.2 ਹੇਠ ਲਿਖਿਆਂ ਵਿੱਚੋਂ ਕਿਹੜਾ ਪੰਜਾਬੀ ਆਗੂ ਆਪਣੇ ਦਲੇਰ ਭਾਸ਼ਣਾਂ ਅਤੇ ਰਾਸ਼ਟਰਵਾਦੀ ਲਿਖਤਾਂ ਲਈ 'ਪੰਜਾਬ ਕੇਸਰੀ' ਵਜੋਂ ਜਾਣਿਆ ਜਾਂਦਾ ਸੀ?

- Ans
- 1. ਮਾਸਟਰ ਤਾਰਾ ਸਿੰਘ
  - 2. ਲਾਲਾ ਲਾਜਪਤ ਰਾਏ
  - 3. ਮੌਲਾਨਾ ਜ਼ਫਰ ਅਲੀ ਖਾਨ
  - 4. ਸਰਦਾਰ ਅਜੀਤ ਸਿੰਘ

Question ID : 441009142842

Option 1 ID : 441009567473

Option 2 ID : 441009567471

Option 3 ID : 441009567472

Option 4 ID : 441009567470

Status : Marked For Review

Chosen Option : 4

Q.2 Which Article of the Indian Constitution outlines the provisions related to citizenship at the commencement of the Constitution?

- Ans
- 1. Article 3
  - 2. Article 14
  - 3. Article 5
  - 4. Article 21

Question ID : 441009123538

Option 1 ID : 441009491055

Option 2 ID : 441009491057

Option 3 ID : 441009491056

Option 4 ID : 441009491058

Status : Marked For Review

Chosen Option : 4

Q.2 Which of the following sources provides the most comprehensive profile of essential amino acids?

- Ans
- 1. Wheat
  - 2. Rice
  - 3. Milk
  - 4. Orange

Question ID : 441009149093

Option 1 ID : 441009592157

Option 2 ID : 441009592158

Option 3 ID : 441009592156

Option 4 ID : 441009592159

Status : Marked For Review

Chosen Option : 4

Q.2 What was the average health expenditure allocation by states in 2022-23, as mentioned in Punjab Budget 2024-25?

Ans  1. 6.2%

2. 7.5%

3. 5.2%

4. 4.6%

Question ID : 44100994422

Option 1 ID : 441009375672

Option 2 ID : 441009375673

Option 3 ID : 441009375671

Option 4 ID : 441009375670

Status : Marked For Review

Chosen Option : 2

Q.2 ਹੇਠ ਲਿਖਿਆਂ ਵਿੱਚੋਂ ਕਿਹੜੇ ਰਾਜ ਵਿੱਚ ਵਿਧਾਨ ਪ੍ਰੀਸ਼ਦ ((Legislative Council) ਨਹੀਂ ਹੈ?

Ans  1. ਬਿਹਾਰ

2. ਕਰਨਾਟਕ

3. ਮਹਾਰਾਸ਼ਟਰ

4. ਰਾਜਸਥਾਨ

Question ID : 441009109509

Option 1 ID : 441009435745

Option 2 ID : 441009435746

Option 3 ID : 441009435748

Option 4 ID : 441009435747

Status : Marked For Review

Chosen Option : 3

Q.3 Which of the following nutrition programmes focuses on childhood care and development, covering pregnant and nursing mothers and infants and young children up to 6 years?

Ans  1. Mid-Day Meal Programme

2. National Prophylaxis Programme

3. National Nutritional Anaemia Prophylaxis Programme

4. Integrated Child Development Services (ICDS)

Question ID : 441009127792

Option 1 ID : 441009507794

Option 2 ID : 441009507795

Option 3 ID : 441009507796

Option 4 ID : 441009507793

Status : Marked For Review

Chosen Option : 4

Q.3  
1 Which minerals significant reserves were discovered in Punjab in 2025, making it the second state after Rajasthan to have such reserves?

Ans  1. Potash

2. Lead

3. Copper

4. Gold

Question ID : 44100989430

Option 1 ID : 441009355872

Option 2 ID : 441009355874

Option 3 ID : 441009355873

Option 4 ID : 441009355871

Status : Marked For Review

Chosen Option : 1

Q.3  
2 Which of the following statements are NOT true regarding the Bhuria Committee, which is responsible for shaping Panchayati Raj Institutions in Tribal Areas and Scheduled Areas?

Ans  1. It is a three-tiered structure of self-governance in the tribal areas.

2. A taluka or block level body should be at the second highest level.

3. The Gram Sabha will exercise the command over natural resources, disputes and manage institutions under it, like schools and cooperatives.

4. The committee submitted its report in January 1996.

Question ID : 441009132209

Option 1 ID : 441009525525

Option 2 ID : 441009525527

Option 3 ID : 441009525528

Option 4 ID : 441009525526

Status : Marked For Review

Chosen Option : 3

Q.3  
3 2022 ਵਿੱਚ, ਸੁਪਰੀਮ ਕੋਰਟ ਨੇ ਪੰਜਾਬ ਦੀ ਇੱਕ ਅਦਾਲਤ ਵੱਲੋਂ ਮੌਤ ਦੀ ਸਜ਼ਾ ਦੇ ਵਿਰੁੱਧ ਅਪੀਲ ਦੀ ਸੁਣਵਾਈ ਕੀਤੀ। ਕਿਹੜਾ ਅਨੁਛੇਦ ਇਸਨੂੰ ਅਪੀਲ ਲੈਣ ਦੀ ਆਗਿਆ ਦਿੰਦਾ ਹੈ?

Ans  1. ਅਨੁਛੇਦ 32

2. ਅਨੁਛੇਦ 131

3. ਅਨੁਛੇਦ 142

4. ਅਨੁਛੇਦ 136

Question ID : 441009124754

Option 1 ID : 441009495896

Option 2 ID : 441009495898

Option 3 ID : 441009495897

Option 4 ID : 441009495895

Status : Marked For Review

Chosen Option : 3

Q.3 2007 ਵਿੱਚ ਪੰਜਾਬ ਵਿੱਚ ਸ਼ੁਰੂ ਕੀਤੇ ਗਏ ਏਕੀਕ੍ਰਿਤ ਬਿਮਾਰੀ ਨਿਗਰਾਨੀ ਪ੍ਰੋਗਰਾਮ (Integrated Disease Surveillance Programme - IDSP) ਦਾ ਮੁੱਖ ਉਦੇਸ਼ ਕੀ ਹੈ?

- Ans
- 1. ਬੱਚਿਆਂ ਦੀ ਪੇਸ਼ਣ ਸਥਿਤੀ ਦੀ ਨਿਗਰਾਨੀ ਕਰਨ ਲਈ
  - 2. ਛੇਤੀ ਰਿਪੋਰਟਿੰਗ ਰਾਹੀਂ ਸੰਚਾਰੀ ਬਿਮਾਰੀਆਂ ਦਾ ਪਤਾ ਲਗਾਉਣਾ ਅਤੇ ਨਿਯੰਤਰਣ ਕਰਨਾ
  - 3. ਸਾਰੇ ਉਮਰ ਸਮੂਹਾਂ ਲਈ ਮੁਫਤ ਟੀਕਾਕਰਨ ਪ੍ਰਦਾਨ ਕਰਨਾ
  - 4. ਰਾਜ ਭਰ ਵਿੱਚ ਦੁਰਲੱਭ ਬਿਮਾਰੀਆਂ ਲਈ ਵੱਡੇ ਪੱਧਰ 'ਤੇ ਜੈਨੇਟਿਕ ਟੈਸਟਿੰਗ ਕਰਵਾਉਣਾ

Question ID : 441009142272

Option 1 ID : 441009565226

Option 2 ID : 441009565227

Option 3 ID : 441009565228

Option 4 ID : 441009565229

Status : Marked For Review

Chosen Option : 2

Q.3 5 ਰਿੰਗੂ ਇੱਕ ਚੰਗਾ ਐਥਲੀਟ ਹੈ। ਇੱਕ ਸਵੇਰ, ਉਸਦਾ ਮੁਕਾਬਲਾ ਹੈ। ਉਸਨੂੰ ਨਾਸ਼ਤੇ ਵਿੱਚ ਕਿਸ ਕਿਸਮ ਦੀ ਖੁਰਾਕ ਨੂੰ ਤਰਜੀਹ ਦੇਣੀ ਹੈ?

- A. ਹਲਕੀ ਕਾਰਬੋਹਾਈਡਰੇਟ ਭਰਪੂਰ ਵਾਲੀ ਖੁਰਾਕ ਜਿਵੇਂ ਕਿ ਬ੍ਰੈੱਡ ਜਾਂ ਰੋਟੀ ਖਾਓ।
- B. ਦੁੱਧ ਦੇ ਨਾਲ ਅਨਾਜ ਖਾਓ।
- C. ਮੱਖਣ ਅਤੇ ਪਨੀਰ ਵਰਗੀ ਚਰਬੀ ਨਾਲ ਭਰਪੂਰ ਖੁਰਾਕ ਖਾਓ।

- Ans
- 1. ਸਿਰਫ A
  - 2. ਸਿਰਫ B
  - 3. ਸਿਰਫ A ਅਤੇ B
  - 4. ਸਿਰਫ B ਅਤੇ C

Question ID : 441009145453

Option 1 ID : 441009577748

Option 2 ID : 441009577749

Option 3 ID : 441009577747

Option 4 ID : 441009577750

Status : Marked For Review

Chosen Option : 3

Section : Quantitative Aptitude and Numerical Skills

Q.3 6 The average age of three persons is 40 years and their ages are in the proportion 1 : 5 : 9. What is the age in years of the youngest person?

- Ans
- 1. 8
  - 2. 6
  - 3. 2.67
  - 4. 13.33

Question ID : 441009194678

Option 1 ID : 441009766659

Option 2 ID : 441009766662

Option 3 ID : 441009766660

Option 4 ID : 441009766661

Status : Marked For Review

Chosen Option : 3

Q.3 Find the simple interest (in closest integral ₹) on ₹4,000 at 6% per annum rate of interest for the period from 18 February 2024 to 19 April 2024.

- Ans  1. 39
2. 40
3. 38
4. 41

Question ID :	441009194540
Option 1 ID :	441009766108
Option 2 ID :	441009766107
Option 3 ID :	441009766110
Option 4 ID :	441009766109
Status :	Marked For Review
Chosen Option :	2

Q.3 Nisha, Sameer and Rupesh invested in a business in the ratio 5 : 8 : 6. They invested their capitals for 7 months, 11 months and 1 month, respectively. What was the ratio of their profits?

- Ans  1. 33 : 88 : 6
2. 34 : 88 : 6
3. 32 : 88 : 6
4. 35 : 88 : 6

Question ID :	441009194032
Option 1 ID :	441009764076
Option 2 ID :	441009764078
Option 3 ID :	441009764077
Option 4 ID :	441009764075
Status :	Marked For Review
Chosen Option :	4

Q.3 Manisha and Tanisha can paint a house in 40 days and 60 days, respectively. If they work on alternate days, starting with Tanisha, in how many days can the duo complete painting that house?

- Ans  1. 52 days
2. 51 days
3. 50 days
4. 48 days

Question ID :	441009194147
Option 1 ID :	441009764537
Option 2 ID :	441009764536
Option 3 ID :	441009764538
Option 4 ID :	441009764535
Status :	Marked For Review
Chosen Option :	4

Q.4 0 Mukund purchased 10 kg of rice at the rate of ₹37 per kg and 31 kg of rice at ₹46 per kg. He sold the whole mixture at the rate of ₹42 per kg. Find his loss (in ₹).

- Ans
- 1. 82
  - 2. 79
  - 3. 69
  - 4. 74

Question ID : 441009191013

Option 1 ID : 441009752855

Option 2 ID : 441009752853

Option 3 ID : 441009752854

Option 4 ID : 441009752852

Status : Marked For Review

Chosen Option : 4

Q.4 1 A sports shop sells a cricket bat with a marked price of ₹4,000. During a weekend sale, the shop offers a 15% discount. However, the customer also has a ₹200 loyalty voucher that can be used after the discount is applied. What is the final price the customer pays?

- Ans
- 1. ₹3,200
  - 2. ₹3,100
  - 3. ₹3,400
  - 4. ₹3,600

Question ID : 441009133626

Option 1 ID : 441009531228

Option 2 ID : 441009531227

Option 3 ID : 441009531229

Option 4 ID : 441009531230

Status : Marked For Review

Chosen Option : 1

Q.4 2 A merchant has 2835 kg of sugar. He sells a part of it at 22% profit and the remaining quantity at 29% profit. If his overall gain is 24%, how much sugar (in kg) was sold at 29% profit?

- Ans
- 1. 810
  - 2. 807
  - 3. 800
  - 4. 813

Question ID : 441009191378

Option 1 ID : 441009754312

Option 2 ID : 441009754313

Option 3 ID : 441009754315

Option 4 ID : 441009754314

Status : Marked For Review

Chosen Option : 1

Q.4 ਇੱਕ ਦੁਕਾਨਦਾਰ ਇੱਕ ਵਸਤੂ ਨੂੰ ਉਸਦੇ ਅੰਕਿਤ ਮੁੱਲ 'ਤੇ 35% ਅਤੇ 62% ਦੀਆਂ ਲਗਾਤਾਰ ਦੋ ਛੋਟਾਂ ਦੇਣ ਤੋਂ ਬਾਅਦ ₹691.6 ਵਿੱਚ ਵੇਚਦਾ ਹੈ। ਜੇਕਰ ਉਸਨੇ ਕੋਈ ਛੋਟ ਨਾ ਦਿੱਤੀ ਹੁੰਦੀ, ਤਾਂ ਉਸਨੂੰ 12% ਦਾ ਲਾਭ ਹੁੰਦਾ। ਵਸਤੂ ਦਾ ਖਰੀਦ ਮੁੱਲ (₹ ਵਿੱਚ) ਕੀ ਹੈ?

- Ans
- ✗ 1. 2,523
  - ✗ 2. 2,464
  - ✗ 3. 2,507
  - ✓ 4. 2,500

Question ID :	441009194075
Option 1 ID :	441009764248
Option 2 ID :	441009764249
Option 3 ID :	441009764250
Option 4 ID :	441009764247
Status :	Marked For Review
Chosen Option :	2

Q.4 Two pipes A and B can fill a tank in 17 minutes and 12 minutes, respectively. Both the pipes are opened together but after 5 minutes, pipe A is turned off. What is the time required to fill the remaining tank?

- Ans
- ✗ 1.  $\frac{68}{17}$  minutes
  - ✗ 2.  $\frac{69}{17}$  minutes
  - ✗ 3.  $\frac{62}{17}$  minutes
  - ✓ 4.  $\frac{59}{17}$  minutes

Question ID :	441009191200
Option 1 ID :	441009753603
Option 2 ID :	441009753602
Option 3 ID :	441009753601
Option 4 ID :	441009753600
Status :	Marked For Review
Chosen Option :	2

Q.4 100 oranges were bought at ₹1,220 per hundred and were sold at a profit of ₹1,030. Find the selling price (in ₹) per dozen of the oranges.

- Ans
- 1. 275
  - 2. 270
  - 3. 265
  - 4. 280

Question ID :	441009194210
Option 1 ID :	441009764789
Option 2 ID :	441009764787
Option 3 ID :	441009764788
Option 4 ID :	441009764790
Status :	Marked For Review
Chosen Option :	3

Q.4 Simplify the following.  
6  $53 - \{38 \div (4 \times 7 - 9)\}$

- Ans
- 1. 47
  - 2. 51
  - 3. 56
  - 4. 58

Question ID :	441009194415
Option 1 ID :	441009765608
Option 2 ID :	441009765607
Option 3 ID :	441009765609
Option 4 ID :	441009765610
Status :	Marked For Review
Chosen Option :	2

Q.4 If 468 apples were distributed among Mansi, Suresh and Jay in the ratio  $\frac{1}{8} : \frac{1}{4} : \frac{1}{6}$ , find the number of apples received by Jay.

- Ans
- 1. 144
  - 2. 114
  - 3. 124
  - 4. 174

Question ID :	441009191487
Option 1 ID :	441009754748
Option 2 ID :	441009754749
Option 3 ID :	441009754751
Option 4 ID :	441009754750
Status :	Marked For Review
Chosen Option :	3

Q.4  
8 ਜੇਕਰ  $40\%$  of  $20 - \frac{3}{7} \times \sqrt[3]{343} \times \sqrt{36} = y$  ਹੈ, ਤਾਂ  $Y$  ਦਾ ਮੁੱਲ ਪਤਾ ਕਰੋ।

Ans  1. -10

2. -3

3. -9

4. -2

Question ID : 441009191300

Option 1 ID : 441009754000

Option 2 ID : 441009754002

Option 3 ID : 441009754003

Option 4 ID : 441009754001

Status : Marked For Review

Chosen Option : 2

Q.4  
9 A batsman in his 13<sup>th</sup> inning makes a score of 85 runs, thereby increasing his average by 1 run. What is his average (in runs) after the 13<sup>th</sup> inning?

Ans  1. 76

2. 72

3. 85

4. 73

Question ID : 441009191342

Option 1 ID : 441009754169

Option 2 ID : 441009754171

Option 3 ID : 441009754170

Option 4 ID : 441009754168

Status : Marked For Review

Chosen Option : 3

Q.5  
0 The price (per litre) of petrol increases by 45%. By what percentage should its consumption be reduced such that the expenditure on it increases by 16% only?

Ans  1. 16%

2. 20%

3. 21%

4. 15%

Question ID : 441009194123

Option 1 ID : 441009764440

Option 2 ID : 441009764439

Option 3 ID : 441009764442

Option 4 ID : 441009764441

Status : Marked For Review

Chosen Option : 1

Q.5 भुलंकट करे।  
1

$$0.\overline{372} \times 0.\overline{55}$$

Ans

✗ 1.  $\frac{630}{2997}$

✗ 2.  $\frac{1240}{3007}$

✗ 3.  $\frac{618}{5994}$

✓ 4.  $\frac{620}{2997}$

Question ID : 441009194281

Option 1 ID : 441009765073

Option 2 ID : 441009765074

Option 3 ID : 441009765072

Option 4 ID : 441009765071

Status : Marked For Review

Chosen Option : 2

Q.5 In a test, B got 58 marks while A got 80 marks, out of 90 maximum marks. What  
2 percentage of A's marks was B's marks?

Ans ✓ 1. 72.5%

✗ 2. 88.89%

✗ 3. 137.93%

✗ 4. 90%

Question ID : 441009191086

Option 1 ID : 441009753144

Option 2 ID : 441009753147

Option 3 ID : 441009753145

Option 4 ID : 441009753146

Status : Marked For Review

Chosen Option : 1

<b>Comprehension:</b>	
Read the given information and answer the questions that follow.	
The price of an article was increased by two successive increments of 10% and 20%. The final price is ₹66.	
<b>SubQuestion No : 53</b>	
Q.5	The single equivalent increment in the price is:
3	
Ans	<input checked="" type="checkbox"/> 1. 34%
	<input checked="" type="checkbox"/> 2. 30%
	<input checked="" type="checkbox"/> 3. 36%
	<input checked="" type="checkbox"/> 4. 32%

Question ID :	441009135268
Option 1 ID :	441009537666
Option 2 ID :	441009537664
Option 3 ID :	441009537667
Option 4 ID :	441009537665
Status :	Marked For Review
Chosen Option :	2

<b>Comprehension:</b>	
Read the given information and answer the questions that follow.	
The price of an article was increased by two successive increments of 10% and 20%. The final price is ₹66.	
<b>SubQuestion No : 54</b>	
Q.5	If the order of successive increments is reversed, then the final price will be:
4	
Ans	<input checked="" type="checkbox"/> 1. ₹66
	<input checked="" type="checkbox"/> 2. ₹68
	<input checked="" type="checkbox"/> 3. ₹62
	<input checked="" type="checkbox"/> 4. ₹60

Question ID :	441009135269
Option 1 ID :	441009537670
Option 2 ID :	441009537671
Option 3 ID :	441009537669
Option 4 ID :	441009537668
Status :	Marked For Review
Chosen Option :	4

<b>Comprehension:</b>	
Read the given information and answer the questions that follow.	
The price of an article was increased by two successive increments of 10% and 20%. The final price is ₹66.	
<b>SubQuestion No : 55</b>	
Q.5	The original price of the article was:
5	
Ans	✓ 1. ₹50
	✗ 2. ₹60
	✗ 3. ₹62
	✗ 4. ₹55

Question ID :	441009135267
Option 1 ID :	441009537660
Option 2 ID :	441009537662
Option 3 ID :	441009537663
Option 4 ID :	441009537661
Status :	Marked For Review
Chosen Option :	1

Section : Mental Ability & Logical Reasoning

<b>Comprehension:</b>	
In an examination, Kabir ranked 47 <sup>th</sup> from the top and Manav ranked 26 <sup>th</sup> from the bottom. Manav ranked immediately below Kabir.	
<b>SubQuestion No : 56</b>	
Q.5	How many students are there in the class?
6	
Ans	✗ 1. 74
	✓ 2. 73
	✗ 3. 71
	✗ 4. 72

Question ID :	44100977021
Option 1 ID :	441009306172
Option 2 ID :	441009306169
Option 3 ID :	441009306171
Option 4 ID :	441009306170
Status :	Marked For Review
Chosen Option :	3

<b>Comprehension:</b>	
In an examination, Kabir ranked 47 <sup>th</sup> from the top and Manav ranked 26 <sup>th</sup> from the bottom. Manav ranked immediately below Kabir.	
<b>SubQuestion No : 57</b>	
<b>Q.5</b>	What is Kabir's rank from the bottom?
<b>7</b>	
<b>Ans</b>	✓ 1. 27
	✗ 2. 28
	✗ 3. 26
	✗ 4. 29

Question ID :	44100977022
Option 1 ID :	441009306173
Option 2 ID :	441009306175
Option 3 ID :	441009306174
Option 4 ID :	441009306176
Status :	Marked For Review
Chosen Option :	1

<b>Comprehension:</b>	
Read the given information and answer the questions that follow.	
Each of A, B, C, D and E has an exam on a different day of a week starting from Monday and ending on Friday of the same week.	
A has the exam on Tuesday. Only two people have exams between A and D. C has the exam immediately before D. B has the exam immediately before C.	
<b>SubQuestion No : 58</b>	
<b>Q.5</b>	On which day does E have the exam?
<b>8</b>	
<b>Ans</b>	✓ 1. Monday
	✗ 2. Friday
	✗ 3. Tuesday
	✗ 4. Wednesday

Question ID :	44100974431
Option 1 ID :	441009296030
Option 2 ID :	441009296031
Option 3 ID :	441009296033
Option 4 ID :	441009296032
Status :	Marked For Review
Chosen Option :	1

**Comprehension:**  
Read the given information and answer the questions that follow.  
Each of A, B, C, D and E has an exam on a different day of a week starting from Monday and ending on Friday of the same week.  
A has the exam on Tuesday. Only two people have exams between A and D. C has the exam immediately before D. B has the exam immediately before C.

SubQuestion No : 59	
Q.5	How many people have exams before C?
9	
Ans	<input type="checkbox"/> 1. Two
	<input checked="" type="checkbox"/> 2. Three
	<input type="checkbox"/> 3. One
	<input type="checkbox"/> 4. Four

Question ID :	44100974432
Option 1 ID :	441009296035
Option 2 ID :	441009296036
Option 3 ID :	441009296034
Option 4 ID :	441009296037
Status :	Marked For Review
Chosen Option :	2

**Comprehension:**  
Read the given information and answer the questions that follow.  
Each of A, B, C, D and E has an exam on a different day of a week starting from Monday and ending on Friday of the same week.  
A has the exam on Tuesday. Only two people have exams between A and D. C has the exam immediately before D. B has the exam immediately before C.

SubQuestion No : 60	
Q.6	How many people have exams between C and A?
0	
Ans	<input type="checkbox"/> 1. Two
	<input type="checkbox"/> 2. Three
	<input checked="" type="checkbox"/> 3. One
	<input type="checkbox"/> 4. Four

Question ID :	44100974433
Option 1 ID :	441009296039
Option 2 ID :	441009296040
Option 3 ID :	441009296038
Option 4 ID :	441009296041
Status :	Marked For Review
Chosen Option :	3

<b>Comprehension:</b>	
Read the given information and answer the questions that follow.	
Junaid starts from Point A and drives 25 km towards west. He then takes a left turn, drives 24 km, turns left and drives 29 km. He then takes a left turn and drives 35 km. He takes a final left turn, drives 4 km and stops at Point P.	
<b>SubQuestion No : 61</b>	
<b>Q.6</b>	<b>How far (shortest distance) should he drive in order to reach Point A again? (All turns are 90-degree turns only, unless specified.)</b>
<b>1</b>	
<b>Ans</b>	✓ 1. 11 km
	✗ 2. 12 km
	✗ 3. 13 km
	✗ 4. 10 km

Question ID :	44100979131
Option 1 ID :	441009314391
Option 2 ID :	441009314392
Option 3 ID :	441009314393
Option 4 ID :	441009314390
Status :	Marked For Review
Chosen Option :	1

<b>Comprehension:</b>	
Read the given information and answer the questions that follow.	
Junaid starts from Point A and drives 25 km towards west. He then takes a left turn, drives 24 km, turns left and drives 29 km. He then takes a left turn and drives 35 km. He takes a final left turn, drives 4 km and stops at Point P.	
<b>SubQuestion No : 62</b>	
<b>Q.6</b>	<b>Towards which direction should he drive in order to reach Point A again from Point P? (All turns are 90-degree turns only, unless specified.)</b>
<b>2</b>	
<b>Ans</b>	✗ 1. North
	✓ 2. South
	✗ 3. East
	✗ 4. West

Question ID :	44100979132
Option 1 ID :	441009314395
Option 2 ID :	441009314394
Option 3 ID :	441009314396
Option 4 ID :	441009314397
Status :	Marked For Review
Chosen Option :	2

Q.6 What should come in place of the question mark (?) in the given series?  
3  
11 44 48 144 147 294 296 ?

- Ans
- 1. 592
  - 2. 297
  - 3. 296
  - 4. 496

Question ID :	44100983755
Option 1 ID :	441009332761
Option 2 ID :	441009332762
Option 3 ID :	441009332763
Option 4 ID :	441009332760
Status :	Marked For Review
Chosen Option :	4

Q.6 74 is related to 86 following a certain logic. Following the same logic, 89 is related to 101.  
4 To which of the given options is 65 related, following the same logic?

(NOTE: Operations should be performed on the whole numbers, without breaking down the numbers into their constituent digits. E.g. 13 – Operations on 13 such as adding/subtracting/multiplying to 13 can be performed. Breaking down 13 into 1 and 3 and then performing mathematical operations on 1 and 3 is not allowed.)

- Ans
- 1. 77
  - 2. 67
  - 3. 75
  - 4. 64

Question ID :	44100983348
Option 1 ID :	441009331155
Option 2 ID :	441009331157
Option 3 ID :	441009331154
Option 4 ID :	441009331156
Status :	Marked For Review
Chosen Option :	1

Q.6 X, Y ਦਾ ਪਿਤਾ ਹੈ। Y, Z ਦਾ ਪਤੀ ਹੈ। Z, T ਦੀ ਮਾਂ ਹੈ। X ਦਾ T ਨਾਲ ਕੀ ਸੰਬੰਧ ਹੈ?  
5

- Ans
- 1. ਪਿਤਾ
  - 2. ਮਾਤਾ
  - 3. ਪਿਤਾ ਦਾ ਪਿਤਾ
  - 4. ਪੁੱਤਰੀ

Question ID :	44100982880
Option 1 ID :	441009329284
Option 2 ID :	441009329285
Option 3 ID :	441009329283
Option 4 ID :	441009329286
Status :	Marked For Review
Chosen Option :	3

Q.6 What should come in place of the question mark (?) in the given series?

6

16 27 40 55 72 ?

Ans  1. 85

2. 87

3. 91

4. 96

Question ID : 44100989884

Option 1 ID : 441009357691

Option 2 ID : 441009357692

Option 3 ID : 441009357690

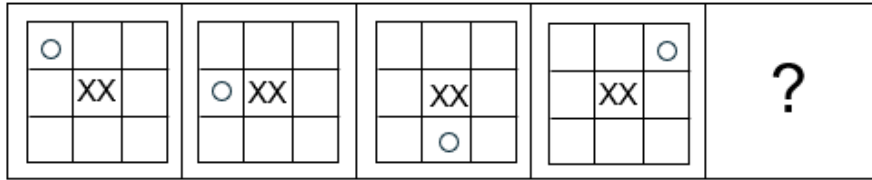
Option 4 ID : 441009357693

Status : Marked For Review

Chosen Option : 3

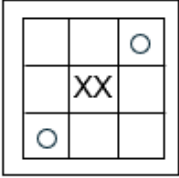


Q.6 Identify the figure given in the options which when put in place of the question mark (?) will logically complete the series.

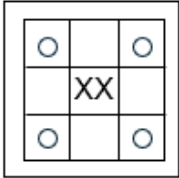


Ans

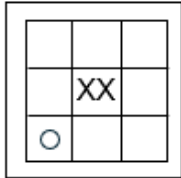
X 1.




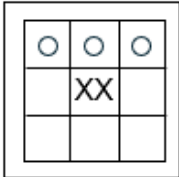
X 2.



✓ 3.



X 4.



Question ID :	441009109750
Option 1 ID :	441009461603
Option 2 ID :	441009461600
Option 3 ID :	441009461601
Option 4 ID :	441009461602
Status :	Marked For Review
Chosen Option :	4

Q.6 Refer to the following letter, symbol series and answer the question.  
8 (Left) ! @ D T Y J & \* K H S \$ K N \* (Right)  
Which of the following letters/symbols is fourth from the right in the given series?

Ans  1. \$

2. S

3. &

4. @

Question ID : 44100987960

Option 1 ID : 441009349773

Option 2 ID : 441009349776

Option 3 ID : 441009349774

Option 4 ID : 441009349775

Status : Marked For Review

Chosen Option : 2

Q.6 Refer to the following series and answer the question (all numbers are single digit  
9 numbers only).  
(Left) 4 7 2 6 9 2 9 8 5 6 8 9 3 9 6 3 1 8 6 2 8 9 2 (Right)  
How many 3' s are there in the given series?

Ans  1. One

2. Three

3. Two

4. None

Question ID : 44100988637

Option 1 ID : 441009352552

Option 2 ID : 441009352554

Option 3 ID : 441009352553

Option 4 ID : 441009352551

Status : Marked For Review

Chosen Option : 1

Q.7 P is the brother of T. T is the mother of S. S is the sister of Q. How is T related to Q?  
0

Ans  1. Mother's mother

2. Father

3. Father's mother

4. Mother

Question ID : 44100982883

Option 1 ID : 441009329297

Option 2 ID : 441009329296

Option 3 ID : 441009329298

Option 4 ID : 441009329295

Status : Marked For Review

Chosen Option : 4

Q.7  
1 Which of the following letter-clusters should replace # and % so that the pattern and relationship followed between the letter-cluster pair on the left side of :: is the same as that on the right side of ::?

# : NH :: RD : %

Ans  1. # = OI, % = QD

2. # = OI, % = SE

3. # = MG, % = SE

4. # = MG, % = QC

Question ID :	441009100406
Option 1 ID :	441009399589
Option 2 ID :	441009399586
Option 3 ID :	441009399587
Option 4 ID :	441009399588
Status :	Marked For Review
Chosen Option :	3

Q.7  
2 Refer to the given letter series and answer the question that follows. Counting to be done from left to right only.  
(Left) C K H V A N B R L G I X F J Z M O P D (Right)  
Which letter is sixth from the left in the given series?

Ans  1. B

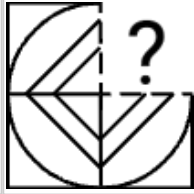
2. F

3. N

4. J

Question ID :	44100983851
Option 1 ID :	441009333145
Option 2 ID :	441009333146
Option 3 ID :	441009333144
Option 4 ID :	441009333147
Status :	Marked For Review
Chosen Option :	3

Q.7 ਪੈਟਰਨ ਨੂੰ ਪੂਰਾ ਕਰਨ ਲਈ ਹੇਠਾਂ ਦਿੱਤੇ ਚਿੱਤਰ ਵਿੱਚ ਪ੍ਰਸ਼ਨ ਚਿੰਨ੍ਹ (?) ਦੀ ਥਾਂ ਲੈਣ ਵਾਲੇ ਵਿਕਲਪ ਚਿੱਤਰ ਦੀ ਚੋਣ ਕਰੋ।  
3



Ans

✓ 1.



✗ 2.



✗ 3.



✗ 4.



Question ID : 441009114824

Option 1 ID : 441009456698

Option 2 ID : 441009456699

Option 3 ID : 441009456697

Option 4 ID : 441009456696

Status : Marked For Review

Chosen Option : 2

Q.7 What should come in place of the question mark (?) in the given series based on the English alphabetical order?  
4

RR TQ VP ? ZN

Ans

✗ 1. XP

✗ 2. WP

✗ 3. WO

✓ 4. XO

Question ID : 44100988708

Option 1 ID : 441009352834

Option 2 ID : 441009352833

Option 3 ID : 441009352831

Option 4 ID : 441009352832

Status : Marked For Review

Chosen Option : 4

Q.7 5 Read the given statements and conclusions carefully. Assuming that the information given in the statements is true, even if it appears to be at variance with commonly known facts, decide which of the given conclusions logically follow(s) from the statements.

Statements:  
Some rings are bangles.  
Some bangles are necklaces.

Conclusions:  
(I): Some bangles are rings.  
(II): Some rings are necklaces.

- Ans
- 1. Neither conclusion follows
  - 2. Only conclusion I follows
  - 3. Both conclusions follow
  - 4. Only conclusion II follows

Question ID :	44100982819
Option 1 ID :	441009329042
Option 2 ID :	441009329039
Option 3 ID :	441009329041
Option 4 ID :	441009329040
Status :	Marked For Review
Chosen Option :	2

Section : English Language Skills and Punjabi Language Skills

Q.7 6 ਅੰਗਰੇਜ਼ੀ ਵਿੱਚ ਦਿੱਤੇ ਸ਼ਬਦ ਦਾ ਪੰਜਾਬੀ ਵਿੱਚ ਅਨੁਵਾਦ ਕਰੋ।

Scorpion

- Ans
- 1. ਬਿੱਛੂ
  - 2. ਕੱਛੂ
  - 3. ਨੇਵਲਾ
  - 4. ਛਿੱਕੂ

Question ID :	441009287332
Option 1 ID :	4410091116268
Option 2 ID :	4410091116269
Option 3 ID :	4410091116271
Option 4 ID :	4410091116270
Status :	Marked For Review
Chosen Option :	1

Q.7 Select the most appropriate option to fill in the blank.  
7  
You should submit your application today \_\_\_\_\_ it will not be considered for the position.

Ans  1. whereas

2. or

3. although

4. since

Question ID :	441009113925
Option 1 ID :	441009453180
Option 2 ID :	441009453178
Option 3 ID :	441009453181
Option 4 ID :	441009453179
Status :	Marked For Review
Chosen Option :	1

Q.7 Select the most appropriate ANTONYM of the given word.  
8  
Voracious

Ans  1. Foolish

2. Satisfied

3. Wise

4. Insatiable

Question ID :	44100997307
Option 1 ID :	441009387231
Option 2 ID :	441009387232
Option 3 ID :	441009387234
Option 4 ID :	441009387233
Status :	Marked For Review
Chosen Option :	2

Q.7 Select the option that can be used as a one-word substitute for the given group of words.  
9  
A form of government in which power is held by the nobility

Ans  1. Bureaucracy

2. Gerontocracy

3. Aristocracy

4. Kakistocracy

Question ID :	441009105253
Option 1 ID :	441009419193
Option 2 ID :	441009419194
Option 3 ID :	441009419192
Option 4 ID :	441009419191
Status :	Marked For Review
Chosen Option :	1

Q.8 Sentences of a paragraph are given below in jumbled order. Arrange the sentences in the correct order to form a meaningful and coherent paragraph.

- A: There is a real distinction between merely 'hearing' and really 'listening' .
- B: Expressing our wants, feelings, thoughts, and opinions clearly and effectively, is only half the communication process needed for interpersonal relationships.
- C: Effective communication exists between two people when the receiver interprets and understands the sender's message in the same way the sender intended it.
- D: The other half — perhaps the more important half in some ways, is listening to and understanding what others communicate to us.
- E: When we listen effectively, we understand what the person is thinking and feeling from the other person's own perspective.
- F: It is as if we were standing in the other person's shoes, seeing through their eyes and listening through their ears.

- Ans
- 1. D, F, E, A, B, C
  - 2. C, A, F, E, B, D
  - 3. A, B, D, C, F, E
  - 4. B, D, C, A, E, F

Question ID :	441009104770
Option 1 ID :	441009417282
Option 2 ID :	441009417279
Option 3 ID :	441009417280
Option 4 ID :	441009417281
Status :	Marked For Review
Chosen Option :	4

Q.8 Select the option that rectifies the incorrectly spelt word in the given sentence.  
1 The poor man expressed a deep sense of gratitude for the help he received.

- Ans
- 1. gratitued
  - 2. gratitude
  - 3. grattitude
  - 4. gratitood

Question ID :	441009106131
Option 1 ID :	441009422562
Option 2 ID :	441009422561
Option 3 ID :	441009422563
Option 4 ID :	441009422564
Status :	Marked For Review
Chosen Option :	2

Q.8	ਪੰਜਾਬੀ ਵਿੱਚ ਦਿੱਤੇ ਗਏ ਵਾਕ ਦਾ ਅੰਗਰੇਜ਼ੀ ਵਿੱਚ ਅਨੁਵਾਦ ਕਰੋ।
2	ਮਿੱਟੀ ਸਭ ਤੋਂ ਨਵਿਆਉਣਯੋਗ ਕੁਦਰਤੀ ਸੋਮਾ ਹੈ।
Ans	<input checked="" type="checkbox"/> 1. Soil is the most renewable natural resource. <input type="checkbox"/> 2. Soil is most important renewable natural resource. <input type="checkbox"/> 3. Soil is natural resource the most renewable. <input type="checkbox"/> 4. Earth is more necessary renewable natural resource.

Question ID :	441009332925
Option 1 ID :	4410091297688
Option 2 ID :	4410091297689
Option 3 ID :	4410091297690
Option 4 ID :	4410091297687
Status :	Marked For Review
Chosen Option :	1

<b>Comprehension:</b>
Read the given passage and answer the questions that follow.
<p>Sarojini Naidu was more than a poet and freedom fighter—she was a passionate advocate for unity in a deeply divided society. During the struggle for independence, India was fragmented along lines of caste, religion, gender and language. Sarojini believed that true independence could only be achieved if the people stood together as one nation. She frequently addressed gatherings where she encouraged Hindus, Muslims, Sikhs and Christians to rise above communal boundaries and work for a shared future. As a gifted orator, she used her eloquence to spread messages of tolerance and national harmony. Her poetry, too, reflected India’s cultural richness and diversity. Sarojini strongly opposed any form of discrimination, believing that India’s strength lay in its pluralism. She showed by example that patriotism was not just about opposing colonial rule, but also about embracing fellow citizens with compassion and equality. Her efforts helped lay the foundation for a more inclusive and united India.</p>

SubQuestion No :	83
Q.8	What principle did Sarojini Naidu emphasise in her speeches?
3	
Ans	<input type="checkbox"/> 1. Westernisation of Indian culture <input checked="" type="checkbox"/> 2. Unity among diverse communities <input type="checkbox"/> 3. Technological advancement <input type="checkbox"/> 4. National military strength

Question ID :	441009174732
Option 1 ID :	441009691187
Option 2 ID :	441009691185
Option 3 ID :	441009691184
Option 4 ID :	441009691186
Status :	Marked For Review
Chosen Option :	2

**Comprehension:**

Read the given passage and answer the questions that follow.

Sarojini Naidu was more than a poet and freedom fighter—she was a passionate advocate for unity in a deeply divided society. During the struggle for independence, India was fragmented along lines of caste, religion, gender and language. Sarojini believed that true independence could only be achieved if the people stood together as one nation. She frequently addressed gatherings where she encouraged Hindus, Muslims, Sikhs and Christians to rise above communal boundaries and work for a shared future. As a gifted orator, she used her eloquence to spread messages of tolerance and national harmony. Her poetry, too, reflected India’s cultural richness and diversity. Sarojini strongly opposed any form of discrimination, believing that India’s strength lay in its pluralism. She showed by example that patriotism was not just about opposing colonial rule, but also about embracing fellow citizens with compassion and equality. Her efforts helped lay the foundation for a more inclusive and united India.

<b>SubQuestion No : 84</b>	
<b>Q.8</b>	<b>What major societal issue did Sarojini Naidu try to address through her activism?</b>
<b>4</b>	
<b>Ans</b>	<input checked="" type="checkbox"/> 1. Expansion of maritime trade routes
	<input checked="" type="checkbox"/> 2. Foreign investment in India
	<input checked="" type="checkbox"/> 3. Industrialisation of rural areas
	<input checked="" type="checkbox"/> 4. Social divisions and communal disharmony

Question ID :	441009174731
Option 1 ID :	4410091008942
Option 2 ID :	441009691182
Option 3 ID :	441009691181
Option 4 ID :	441009691183
Status :	Marked For Review
Chosen Option :	4

**Comprehension:**

Read the given passage and answer the questions that follow.

Sarojini Naidu was more than a poet and freedom fighter—she was a passionate advocate for unity in a deeply divided society. During the struggle for independence, India was fragmented along lines of caste, religion, gender and language. Sarojini believed that true independence could only be achieved if the people stood together as one nation. She frequently addressed gatherings where she encouraged Hindus, Muslims, Sikhs and Christians to rise above communal boundaries and work for a shared future. As a gifted orator, she used her eloquence to spread messages of tolerance and national harmony. Her poetry, too, reflected India’s cultural richness and diversity. Sarojini strongly opposed any form of discrimination, believing that India’s strength lay in its pluralism. She showed by example that patriotism was not just about opposing colonial rule, but also about embracing fellow citizens with compassion and equality. Her efforts helped lay the foundation for a more inclusive and united India.

SubQuestion No : 85	
Q.8	How did Sarojini Naidu view true patriotism?
5	
Ans	<input checked="" type="checkbox"/> 1. Embracing all citizens with equality and compassion <input type="checkbox"/> 2. Supporting only the majority population <input type="checkbox"/> 3. Fighting against global capitalism <input type="checkbox"/> 4. Promoting one religion as dominant

Question ID :	441009174733
Option 1 ID :	441009691189
Option 2 ID :	441009691191
Option 3 ID :	441009691188
Option 4 ID :	441009691190
Status :	Marked For Review
Chosen Option :	1

Q.8	ਸਹੀ ਸ਼ਬਦ ਚੁਣੋ
6	
Ans	<input type="checkbox"/> 1. ਰਮੇਸਾ <input checked="" type="checkbox"/> 2. ਆਧਾਰ <input type="checkbox"/> 3. ਪਟੀਆਲੇ <input type="checkbox"/> 4. ਦਪਹਿਰ

Question ID :	441009328682
Option 1 ID :	4410091281156
Option 2 ID :	4410091281154
Option 3 ID :	4410091281157
Option 4 ID :	4410091281155
Status :	Marked For Review
Chosen Option :	2

Q.8 ਸਹੀ ਵਿਸ਼ਰਾਮ ਚਿੰਨ੍ਹ ਵਾਲਾ ਸ਼ਬਦ ਕਿਹੜਾ ਹੈ।  
7

- Ans
- 1. ਖ਼ਬਰਦਾਰ?
  - 2. ਸ਼ਾਬਾਸ਼?
  - 3. ਵਾਹ।
  - 4. ਬੱਲੇ!

Question ID : 441009287803

Option 1 ID : 4410091118122

Option 2 ID : 4410091118120

Option 3 ID : 4410091118121

Option 4 ID : 4410091118119

Status : Marked For Review

Chosen Option : 4

Q.8 ਦਿੱਤੇ ਗਏ ਵਾਕ ਵਿੱਚ ਕਿੰਨੇ ਵਿਸ਼ਰਾਮ ਚਿੰਨ੍ਹ ਵਰਤੇ ਗਏ ਹਨ?  
8

“ਕਮਲ ਨੇ ਕਿਹਾ, ‘ਮੈਂ ਘਰ ਚਲਾ ਗਿਆ ਸੀ।’ ”

- Ans
- 1. ਦੋ
  - 2. ਚਾਰ
  - 3. ਤਿੰਨ
  - 4. ਇੱਕ

Question ID : 441009329230

Option 1 ID : 4410091283321

Option 2 ID : 4410091283323

Option 3 ID : 4410091283322

Option 4 ID : 4410091283320

Status : Marked For Review

Chosen Option : 2

Q.8 ਦਿੱਤੇ ਗਏ ਪੰਜਾਬੀ ਮਹੀਨਿਆਂ ਵਿੱਚੋਂ, ਕਿਹੜਾ ਗ਼ਲਤ ਲਿਖਿਆ ਗਿਆ ਹੈ?  
9  
I. ਸਾਉਣ  
II. ਹਾੜ੍ਹ

- Ans
- 1. ਸਿਰਫ਼ II
  - 2. ਨਾ ਤਾਂ I ਅਤੇ ਨਾ ਹੀ II
  - 3. ਸਿਰਫ਼ I
  - 4. I ਅਤੇ II ਦੋਵੇਂ

Question ID : 441009310062

Option 1 ID : 4410091206745

Option 2 ID : 4410091206747

Option 3 ID : 4410091206744

Option 4 ID : 4410091206746

Status : Marked For Review

Chosen Option : 2

Q.9 ਅਸੁੱਧ ਸ਼ਬਦ ਦੀ ਚੋਣ ਕਰੋ।  
0

- Ans
- 1. ਸ਼੍ਰੇਸ਼ਠ
  - 2. ਸ਼੍ਰੇਸ਼ਟ
  - 3. ਸ਼੍ਰੇਸ਼ਟ
  - 4. ਸ਼੍ਰੇਸ਼ਠ

Question ID : 441009294056

Option 1 ID : 4410091143159

Option 2 ID : 4410091143158

Option 3 ID : 4410091143157

Option 4 ID : 4410091143160

Status : Marked For Review

Chosen Option : 3

Q.9 ਅੰਗਰੇਜ਼ੀ ਵਿੱਚ ਦਿੱਤੇ ਸ਼ਬਦ ਦਾ ਪੰਜਾਬੀ ਵਿੱਚ ਅਨੁਵਾਦ ਕਰੋ।  
1

Respect

- Ans
- 1. ਸਵੀਕਾਰ
  - 2. ਨਮਸਕਾਰ
  - 3. ਸਲਾਹਕਾਰ
  - 4. ਸਤਿਕਾਰ

Question ID : 441009328118

Option 1 ID : 4410091278935

Option 2 ID : 4410091278937

Option 3 ID : 4410091278938

Option 4 ID : 4410091278936

Status : Marked For Review

Chosen Option : 4

Q.9 ਹੇਠਾਂ ਲਿਖਿਆਂ ਵਿੱਚੋਂ ਸਹੀ ਸ਼ਬਦ ਚੁਣੋ  
2

- Ans
- 1. ਅਖੌਰ
  - 2. ਪ੍ਰਗਟਾਉਣ
  - 3. ਅੜਥਾਤ
  - 4. ਨੰਵੀਨ

Question ID : 441009328693

Option 1 ID : 4410091281199

Option 2 ID : 4410091281201

Option 3 ID : 4410091281198

Option 4 ID : 4410091281200

Status : Marked For Review

Chosen Option : 1

**Comprehension:**

ਪੈਰਾ ਪੜ੍ਹ ਕੇ ਹੇਠਾਂ ਦਿੱਤੇ ਪ੍ਰਸ਼ਨਾਂ ਦਾ ਉੱਤਰ ਦਿਓ।

ਪਿੰਡਾਂ ਦੀ ਸਫ਼ਾਈ ਅਤੇ ਲੋਕਾਂ ਦੀ ਸਿਹਤ ਵੱਲ ਧਿਆਨ ਦੇਣਾ ਵੀ ਬੜਾ ਜ਼ਰੂਰੀ ਹੈ। ਉੱਝ ਤਾਂ ਪਿੰਡਾਂ ਦਾ ਪੌਣ ਪਾਣੀ ਬੜਾ ਸਵੱਛ ਤੇ ਤਾਜ਼ਾ ਹੁੰਦਾ ਹੈ। ਪਰ ਰਹਿਣ-ਸਹਿਣ ਦੇ ਵਿਗਿਆਨਕ ਢੰਗਾਂ ਤੋਂ ਨਾਵਾਕਫ਼ੀ ਉਹਨਾਂ ਦੀ ਸਿਹਤ ਉੱਤੇ ਬਹੁਤ ਬੁਰਾ ਅਸਰ ਪਾਉਂਦੀ ਹੈ। ਲੋਕ-ਸਫ਼ਾਈ ਦਾ ਖ਼ਿਆਲ ਨਹੀਂ ਰੱਖਦੇ। ਮਕਾਨਾਂ ਦੇ ਆਲੇ-ਦੁਆਲੇ ਬੜੇ ਗੰਦੇ, ਗਲੀਆਂ ਵਿੱਚ ਗੋਡੇ-ਗੋਡੇ ਚਿੱਕੜ ਤੇ ਗੰਦਗੀ, ਨੀਵੇਂ ਥਾਈਂ ਖਲੋਤਾ ਪਾਣੀ, ਰੂੜੀਆਂ ਦੇ ਢੇਰ, ਛੱਪੜਾਂ ਤੇ ਟੋਇਆਂ ਵਿੱਚ ਪੈਦਾ ਹੋਇਆ ਮੱਛਰ, ਇਹ ਰਹਿਣੀ-ਬਹਿਣੀ ਦੇ ਕੋਝੇ ਜਿਹੇ ਚਿੰਤਰ ਹਨ। ਸਫ਼ਾਈ ਨਾ ਹੋਣ ਕਰਕੇ ਕਈ ਬਿਮਾਰੀਆਂ ਆ ਡੇਰੇ ਲਾਉਂਦੀਆਂ ਹਨ।

SubQuestion No : 93

Q.9 ਪਿੰਡਾਂ ਦਾ ਪੌਣ ਪਾਣੀ ਕਿਹੋ ਜਿਹਾ ਹੁੰਦਾ ਹੈ?  
3

- Ans
- 1. ਗਰਮ/ਤੱਤਾ
  - 2. ਫਿੱਕਾ/ਬਕਬਕਾ
  - 3. ਲੁਣਾ/ਨਮਕੀਨ
  - 4. ਸਵੱਛ/ ਤਾਜ਼ਾ

Question ID :	441009305353
Option 1 ID :	4410091188149
Option 2 ID :	4410091188146
Option 3 ID :	4410091188147
Option 4 ID :	4410091188148
Status :	Marked For Review
Chosen Option :	4

**Comprehension:**

ਪੈਰਾ ਪੜ੍ਹ ਕੇ ਹੇਠਾਂ ਦਿੱਤੇ ਪ੍ਰਸ਼ਨਾਂ ਦਾ ਉੱਤਰ ਦਿਓ।

ਪਿੰਡਾਂ ਦੀ ਸਫ਼ਾਈ ਅਤੇ ਲੋਕਾਂ ਦੀ ਸਿਹਤ ਵੱਲ ਧਿਆਨ ਦੇਣਾ ਵੀ ਬੜਾ ਜ਼ਰੂਰੀ ਹੈ। ਉੱਝ ਤਾਂ ਪਿੰਡਾਂ ਦਾ ਪੌਣ ਪਾਣੀ ਬੜਾ ਸਵੱਛ ਤੇ ਤਾਜ਼ਾ ਹੁੰਦਾ ਹੈ। ਪਰ ਰਹਿਣ-ਸਹਿਣ ਦੇ ਵਿਗਿਆਨਕ ਢੰਗਾਂ ਤੋਂ ਨਾਵਾਕਫ਼ੀ ਉਹਨਾਂ ਦੀ ਸਿਹਤ ਉੱਤੇ ਬਹੁਤ ਬੁਰਾ ਅਸਰ ਪਾਉਂਦੀ ਹੈ। ਲੋਕ-ਸਫ਼ਾਈ ਦਾ ਖ਼ਿਆਲ ਨਹੀਂ ਰੱਖਦੇ। ਮਕਾਨਾਂ ਦੇ ਆਲੇ-ਦੁਆਲੇ ਬੜੇ ਗੰਦੇ, ਗਲੀਆਂ ਵਿੱਚ ਗੋਡੇ-ਗੋਡੇ ਚਿੱਕੜ ਤੇ ਗੰਦਗੀ, ਨੀਵੇਂ ਥਾਈਂ ਖਲੋਤਾ ਪਾਣੀ, ਰੂੜੀਆਂ ਦੇ ਢੇਰ, ਛੱਪੜਾਂ ਤੇ ਟੋਇਆਂ ਵਿੱਚ ਪੈਦਾ ਹੋਇਆ ਮੱਛਰ, ਇਹ ਰਹਿਣੀ-ਬਹਿਣੀ ਦੇ ਕੋਝੇ ਜਿਹੇ ਚਿੰਤਰ ਹਨ। ਸਫ਼ਾਈ ਨਾ ਹੋਣ ਕਰਕੇ ਕਈ ਬਿਮਾਰੀਆਂ ਆ ਡੇਰੇ ਲਾਉਂਦੀਆਂ ਹਨ।

SubQuestion No : 94

Q.9 ਸਫ਼ਾਈ ਨਾ ਹੋਣ ਕਾਰਨ ਕੌਣ ਡੇਰੇ ਲਾਉਂਦਾ ਹੈ?  
4

- Ans
- 1. ਪਿੰਡ ਵਾਸੀ
  - 2. ਬਿਮਾਰੀਆਂ
  - 3. ਖੁਸਬੂ
  - 4. ਰਿਸ਼ਤੇ

Question ID :	441009305354
Option 1 ID :	4410091188152
Option 2 ID :	4410091188151
Option 3 ID :	4410091188153
Option 4 ID :	4410091188150
Status :	Marked For Review
Chosen Option :	2

**Comprehension:**

ਪੈਰਾ ਪੜ੍ਹ ਕੇ ਹੇਠਾਂ ਦਿੱਤੇ ਪ੍ਰਸ਼ਨਾਂ ਦਾ ਉੱਤਰ ਦਿਓ।

ਪਿੰਡਾਂ ਦੀ ਸਫ਼ਾਈ ਅਤੇ ਲੋਕਾਂ ਦੀ ਸਿਹਤ ਵੱਲ ਧਿਆਨ ਦੇਣਾ ਵੀ ਬੜਾ ਜ਼ਰੂਰੀ ਹੈ। ਉੱਝ ਤਾਂ ਪਿੰਡਾਂ ਦਾ ਪੌਣ ਪਾਣੀ ਬੜਾ ਸਵੱਛ ਤੇ ਤਾਜ਼ਾ ਹੁੰਦਾ ਹੈ। ਪਰ ਰਹਿਣ-ਸਹਿਣ ਦੇ ਵਿਗਿਆਨਕ ਢੰਗਾਂ ਤੋਂ ਨਾਵਾਕਫ਼ੀ ਉਹਨਾਂ ਦੀ ਸਿਹਤ ਉੱਤੇ ਬਹੁਤ ਬੁਰਾ ਅਸਰ ਪਾਉਂਦੀ ਹੈ। ਲੋਕ-ਸਫ਼ਾਈ ਦਾ ਖ਼ਿਆਲ ਨਹੀਂ ਰੱਖਦੇ। ਮਕਾਨਾਂ ਦੇ ਆਲੇ-ਦੁਆਲੇ ਬੜੇ ਗੰਦੇ, ਗਲੀਆਂ ਵਿੱਚ ਗੋਡੇ-ਗੋਡੇ ਚਿੱਕੜ ਤੇ ਗੰਦਗੀ, ਨੀਵੇਂ ਥਾਈਂ ਖਲੋਤਾ ਪਾਣੀ, ਰੂੜੀਆਂ ਦੇ ਢੇਰ, ਛੱਪੜਾਂ ਤੇ ਟੋਇਆਂ ਵਿੱਚ ਪੈਦਾ ਹੋਇਆ ਮੱਛਰ, ਇਹ ਰਹਿਣੀ-ਬਹਿਣੀ ਦੇ ਕੋਝੇ ਜਿਹੇ ਚਿੰਤਰ ਹਨ। ਸਫ਼ਾਈ ਨਾ ਹੋਣ ਕਰਕੇ ਕਈ ਬਿਮਾਰੀਆਂ ਆ ਡੇਰੇ ਲਾਉਂਦੀਆਂ ਹਨ।

SubQuestion No : 95

Q.9 ਪਿੰਡਾਂ ਵਿੱਚ ਕਿਸ ਚੀਜ਼ ਵੱਲ ਵਧੇਰੇ ਧਿਆਨ ਦੇਣ ਦੀ ਲੋੜ ਹੈ?  
5

- Ans
- 1. ਪੜ੍ਹਾਈ
  - 2. ਗਰਮੀ
  - 3. ਸਫ਼ਾਈ
  - 4. ਲੜਾਈ

Question ID :	441009305352
Option 1 ID :	4410091188145
Option 2 ID :	4410091188143
Option 3 ID :	4410091188142
Option 4 ID :	4410091188144
Status :	Marked For Review
Chosen Option :	3

Section : Digital Literacy and Awareness

Q.9 Which of the following commands is used on Chrome, Firefox and Chromium-based  
6 Microsoft Edge to paste text only (paste text without source formatting)?

- Ans
- 1. Ctrl+Shift+V
  - 2. Shift+V
  - 3. Ctrl+V
  - 4. Ctrl+X

Question ID :	441009106971
Option 1 ID :	441009425914
Option 2 ID :	441009425915
Option 3 ID :	441009425913
Option 4 ID :	441009425916
Status :	Marked For Review
Chosen Option :	3

Q.9 Snapchat' s "Discover" section primarily features:  
7

- Ans
- 1. curated content from publishers and media outlets
  - 2. user-generated content from personal accounts
  - 3. online shopping catalogues
  - 4. educational research papers

Question ID :	441009134952
Option 1 ID :	441009536445
Option 2 ID :	441009536444
Option 3 ID :	441009536446
Option 4 ID :	441009536447
Status :	Marked For Review
Chosen Option :	2

Q.9 In the context of computer architecture, what is the primary distinction between volatile and non-volatile memory?  
8

- Ans
- 1. Volatile memory is only used in modern computers, while non-volatile memory was prevalent in earlier systems.
  - 2. Non-volatile memory is used for primary storage, while volatile memory is used for secondary storage.
  - 3. Volatile memory retains its data even when the power is turned off, while non-volatile memory loses its data upon power loss.
  - 4. Volatile memory requires power to maintain the stored information, while non-volatile memory does not.

Question ID :	441009134034
Option 1 ID :	441009532812
Option 2 ID :	441009532811
Option 3 ID :	441009532809
Option 4 ID :	441009532810
Status :	Marked For Review
Chosen Option :	2

Q.9 When using the 'Find' (Ctrl + F) function in a lengthy document, what is a common way to quickly jump to the next occurrence of the searched term after finding the initial instance?  
9

- Ans
- 1. Pressing F3
  - 2. Pressing Ctrl + N
  - 3. Pressing Ctrl + V
  - 4. Pressing Ctrl + Tab

Question ID :	441009133940
Option 1 ID :	441009532434
Option 2 ID :	441009532433
Option 3 ID :	441009532435
Option 4 ID :	441009532436
Status :	Marked For Review
Chosen Option :	1

Q.1 Which PowerPoint view is most suitable for practising the timing of your presentation and viewing your speaker notes simultaneously?

Ans  1. Presenter View

2. Slide Sorter View

3. Normal View

4. Reading View

Question ID : 441009134729

Option 1 ID : 441009535583

Option 2 ID : 441009535581

Option 3 ID : 441009535580

Option 4 ID : 441009535582

Status : Marked For Review

Chosen Option : 1

Section : Qualifying Paper of Punjabi Language

Q.1 'ਖਿਡਾਰੀ' ਸ਼ਬਦ ਵਿੱਚ ਕਿਹੜਾ ਪਿਛੇਤਰ ਜੋੜਿਆ ਗਿਆ ਹੈ?

Ans  1. ਆਰੀ

2. ਆ

3. ਈ

4. ਝੀ

Question ID : 441009288104

Option 1 ID : 4410091119315

Option 2 ID : 4410091119317

Option 3 ID : 4410091119318

Option 4 ID : 4410091119316

Status : Answered

Chosen Option : 1

Q.2 ਬੱਕਰਾ ਸ਼ਬਦ ਲਈ ਢੁਕਵਾਂ ਬਹੁਵਚਨ ਸ਼ਬਦ ਚੁਣੋ।

Ans  1. ਬੱਕਰੀ

2. ਚਰਖੇ

3. ਬੱਕਰੀਆਂ

4. ਬੱਕਰੇ

Question ID : 441009288109

Option 1 ID : 4410091119335

Option 2 ID : 4410091119338

Option 3 ID : 4410091119337

Option 4 ID : 4410091119336

Status : Answered

Chosen Option : 4

Q.3 ਉਹ ਸ਼ਬਦ ਚੁਣੋ ਜੋ ਦਿੱਤੇ ਗਏ ਵਾਕ ਦੀ ਥਾਂ ਲੈ ਸਕੇ।

ਜਿਸ ਨੂੰ ਕੋਈ ਨਹੀਂ ਜਾਣਦਾ

Ans  1. ਅਜਾਣਾ

2. ਅਗਿਆਤ

3. ਨਵਾਂ

4. ਅਪ੍ਰਸਿੱਧ

Question ID : 441009305778

Option 1 ID : 4410091189857

Option 2 ID : 4410091189855

Option 3 ID : 4410091189856

Option 4 ID : 4410091189854

Status : Answered

Chosen Option : 4

Q.4 ਹੇਠ ਲਿਖੇ ਵਿੱਚੋਂ ਕਿਹੜਾ ਵਾਕ ਵਿਰਾਮ ਚਿੰਨ੍ਹ ਦੀ ਵਰਤੋਂ ਦੇ ਨਾਲ ਸਹੀ ਹੈ?

Ans  1. ਕਮਰੇ ਵਿੱਚ ਕਿਤਾਬਾਂ, ਰੱਖੀਆਂ ਹਨ ਅਤੇ ਕਾਗਜ਼ ਵੀ ਸਜੇ ਹਨ।

2. ਕਮਰੇ ਵਿੱਚ, ਕਿਤਾਬਾਂ ਰੱਖੀਆਂ ਹਨ ਅਤੇ ਕਾਗਜ਼ ਵੀ ਸਜੇ ਹਨ।

3. ਕਮਰੇ ਵਿੱਚ ਕਿਤਾਬਾਂ ਰੱਖੀਆਂ ਹਨ, ਅਤੇ ਕਾਗਜ਼ ਵੀ ਸਜੇ ਹਨ।

4. ਕਮਰੇ ਵਿੱਚ ਕਿਤਾਬਾਂ ਰੱਖੀਆਂ ਹਨ ਅਤੇ, ਕਾਗਜ਼ ਵੀ ਸਜੇ ਹਨ।

Question ID : 441009268643

Option 1 ID : 4410091043789

Option 2 ID : 4410091043787

Option 3 ID : 4410091043788

Option 4 ID : 4410091043790

Status : Answered

Chosen Option : 3

Q.5 'ਕਪੁੱਤਰ' ਸ਼ਬਦ ਵਿੱਚ 'ਕ' ਕੀ ਹੈ?

Ans  1. ਨਾਂਵ

2. ਅਗੇਤਰ

3. ਪਿਛੇਤਰ

4. ਪੜਨਾਂਵ

Question ID : 441009288197

Option 1 ID : 4410091119688

Option 2 ID : 4410091119689

Option 3 ID : 4410091119687

Option 4 ID : 4410091119690

Status : Answered

Chosen Option : 2

Q.6 ਸਹੀ ਵਾਕ ਦੀ ਚੋਣ ਕਰੋ:

- Ans
- 1. ਅਧਿਆਪਕ ਨੇ ਸ਼ਰਾਰਤੀ ਬੱਚੇ ਨੂੰ ਸਜ਼ਾ ਦਿੱਤੀ।
  - 2. ਅਧਿਆਪਕ ਨੇ ਸ਼ਰਾਰਤੀ ਬੱਚੇ ਨੂੰ ਸਜ਼ਾ ਦਿੱਤੀ।
  - 3. ਅਧਿਆਪਕ ਨੇ ਸ਼ਰਾਰਤੀ ਬੱਚੇ ਨੂੰ ਸਜ਼ਾ ਦਿੱਤੀ।
  - 4. ਅਧਿਆਪਕ ਨੇ ਸ਼ਰਾਰਤੀ ਬੱਚੇ ਨੂੰ ਸਜ਼ਾ ਦਿੱਤੀ।

Question ID : 441009287218

Option 1 ID : 4410091115819

Option 2 ID : 4410091115817

Option 3 ID : 4410091115818

Option 4 ID : 4410091115816

Status : Answered

Chosen Option : 3

Q.7 What does "a silver lining" mean in Punjabi?

- Ans
- 1. ਚਾਂਦੀ ਦੀ ਰੇਖਾ
  - 2. ਬੱਦਲਾਂ ਵਾਲਾ ਦਿਨ
  - 3. ਬਹੁਤ ਖੁਸ਼ਕਿਸਮਤ ਹੋਣਾ
  - 4. ਹਰ ਮੁਸ਼ਕਲ ਵਿੱਚ ਇੱਕ ਚੰਗਾ ਪੱਖ

Question ID : 441009306757

Option 1 ID : 4410091193723

Option 2 ID : 4410091193726

Option 3 ID : 4410091193725

Option 4 ID : 4410091193724

Status : Answered

Chosen Option : 4

Q.8 ਦਿੱਤੇ ਗਏ ਚਿੰਨ੍ਹਾਂ ਵਿੱਚੋਂ ਕਿਸ ਚਿੰਨ੍ਹ ਦੀ ਵਰਤੋਂ, ਵਿਸ਼ੇਸ਼ਤਾ ਦੀ ਵਾਧੂ ਜਾਣਕਾਰੀ ਦੇਣ ਲਈ ਕੀਤੀ ਜਾਂਦੀ ਹੈ?

- Ans
- 1. ਕਾਮਾ
  - 2. ਬਰੈਕਟ
  - 3. ਬਿੰਦੀ ਕਾਮਾ
  - 4. ਦੁਬਿੰਦੀ

Question ID : 441009329409

Option 1 ID : 4410091284066

Option 2 ID : 4410091284067

Option 3 ID : 4410091284069

Option 4 ID : 4410091284068

Status : Answered

Chosen Option : 4

Q.9 ਨੀਲਮ ਜ਼ਬਾਨੀ ਤਾਂ ਸਾਰਾ ਵਧੀਆ ਬੋਲਦੀ ਹੈ, ਪਰ ..... ਅੜ੍ਹ ਜਾਂਦੀ ਹੈ। ਸਹੀ ਵਿਰੋਧੀ ਸ਼ਬਦ ਦੱਸੋ

- Ans
- 1. ਲਿਖਤੀ
  - 2. ਆਵਾਜ਼
  - 3. ਕਲਾਮੀ
  - 4. ਜੀਭ

Question ID :	441009273940
Option 1 ID :	4410091064092
Option 2 ID :	4410091064091
Option 3 ID :	4410091064090
Option 4 ID :	4410091064093
Status :	Answered
Chosen Option :	1

Q.10 ਹੇਠ ਦਿੱਤੇ ਸਵਾਲ ਵਿੱਚ, ਦਿੱਤੇ ਗਏ ਚਾਰ ਵਿਕਲਪਾਂ ਵਿੱਚੋਂ, ਉਹ ਵਿਕਲਪ ਚੁਣੋ ਜੋ ਮੁਹਾਵਰੇ ਦੇ ਅਰਥ ਨੂੰ ਸਭ ਤੋਂ ਵਧੀਆ ਢੰਗ ਨਾਲ ਪ੍ਰਗਟ ਕਰਦਾ ਹੈ।  
ਗੱਲ ਗੱਲ ਤੇ ਰੋਣਾ

- Ans
- 1. ਫ਼ਿਲਮ ਵੇਖਣੀ
  - 2. ਗੀਤ ਗਾਉਣਾ
  - 3. ਹਮੇਸ਼ਾਂ ਖੁਸ਼ ਰਹਿਣਾ
  - 4. ਬਿਨਾਂ ਕਾਰਨ ਰੋਣਾ

Question ID :	441009304315
Option 1 ID :	4410091183971
Option 2 ID :	4410091183973
Option 3 ID :	4410091183970
Option 4 ID :	4410091183972
Status :	Answered
Chosen Option :	4

Q.11 ਇੱਛਾ, ਖਾਹਿਸ਼, ਤਾਂਘ' ਸਮਾਨਾਰਥੀ ਸ਼ਬਦ ਕਿਸ ਭਾਸ਼ਾ ਦੇ ਸ਼ਬਦ ਹਨ:

- Ans
- 1. ਸੰਸਕ੍ਰਿਤ, ਫ਼ਾਰਸੀ, ਪੰਜਾਬੀ
  - 2. ਪੰਜਾਬੀ, ਫ਼ਾਰਸੀ, ਸੰਸਕ੍ਰਿਤ
  - 3. ਸੰਸਕ੍ਰਿਤ, ਪੰਜਾਬੀ, ਫ਼ਾਰਸੀ
  - 4. ਸੰਸਕ੍ਰਿਤ, ਪੰਜਾਬੀ, ਸੰਸਕ੍ਰਿਤ

Question ID :	441009287046
Option 1 ID :	4410091115142
Option 2 ID :	4410091115140
Option 3 ID :	4410091115141
Option 4 ID :	4410091115143
Status :	Answered
Chosen Option :	1

Q.1	What does "the ball is in your court" mean in Punjabi?
2	
Ans	<input type="checkbox"/> 1. ਗੱਦ ਤੁਹਾਡੇ ਕੋਲ ਹੈ
	<input type="checkbox"/> 2. ਖੇਡ ਜਾਰੀ ਹੈ
	<input type="checkbox"/> 3. ਤੁਸੀਂ ਜਿੱਤ ਰਹੇ ਹੋ
	<input checked="" type="checkbox"/> 4. ਹੁਣ ਫੈਸਲਾ ਲੈਣ ਦੀ ਜ਼ਿੰਮੇਵਾਰੀ ਤੁਹਾਡੀ ਹੈ

Question ID :	441009306863
Option 1 ID :	4410091194147
Option 2 ID :	4410091194149
Option 3 ID :	4410091194150
Option 4 ID :	4410091194148
Status :	Answered
Chosen Option :	3

Q.1	ਦਿੱਤੇ ਗਏ ਸ਼ਬਦਾਂ ਵਿੱਚੋਂ ਕਿਹੜਾ ਸ਼ਬਦ "ਦਾਰੀ" ਪਿਛੇਤਰ ਨਾਲ ਨਹੀਂ ਬਣਿਆ ਹੈ?
3	
Ans	<input type="checkbox"/> 1. ਚੌਕੀਦਾਰੀ
	<input type="checkbox"/> 2. ਵਫ਼ਾਦਾਰੀ
	<input type="checkbox"/> 3. ਦੁਕਾਨਦਾਰੀ
	<input checked="" type="checkbox"/> 4. ਚੌਧਰੀ

Question ID :	441009325536
Option 1 ID :	4410091268451
Option 2 ID :	4410091268453
Option 3 ID :	4410091268454
Option 4 ID :	4410091268452
Status :	Answered
Chosen Option :	4

Q.1	What is the correct Punjabi translation of the sentence below? "The victim was taken to the hospital in critical condition."
4	
Ans	<input type="checkbox"/> 1. ਪੀੜਤ ਨੂੰ ਨਜ਼ਦੀਕੀ ਕਿਲ੍ਹੇ ਵਿੱਚ ਲਿਆਇਆ ਗਿਆ
	<input type="checkbox"/> 2. ਪੀੜਤ ਨੂੰ ਪੁਲਿਸ ਚੌਕੀ ਲਿਆਇਆ ਗਿਆ
	<input checked="" type="checkbox"/> 3. ਪੀੜਤ ਨੂੰ ਗੰਭੀਰ ਹਾਲਤ ਵਿੱਚ ਹਸਪਤਾਲ ਲਿਆ ਜਾਇਆ ਗਿਆ
	<input type="checkbox"/> 4. ਪੀੜਤ ਨੂੰ ਸਧਾਰਣ ਹਾਲਤ ਵਿੱਚ ਲਿਆਇਆ ਗਿਆ

Question ID :	441009306930
Option 1 ID :	4410091194416
Option 2 ID :	4410091194418
Option 3 ID :	4410091194417
Option 4 ID :	4410091194415
Status :	Answered
Chosen Option :	3

Q.1 ਪੰਜਾਬੀ ਵਿੱਚ ਦਿੱਤੇ ਗਏ ਵਾਕ ਦਾ ਅੰਗਰੇਜ਼ੀ ਵਿੱਚ ਅਨੁਵਾਦ ਕਰੋ।  
5

ਮਾਤਾ ਜੀ ਨੇ ਖਾਣਾ ਪਕਾਇਆ।

Ans ✓ 1. Mother cooked the food.

✗ 2. Mother baked that food.

✗ 3. Cooked the food mother.

✗ 4. Mother food the cooked.

Question ID : 441009309029

Option 1 ID : 4410091202769

Option 2 ID : 4410091202768

Option 3 ID : 4410091202770

Option 4 ID : 4410091202767

Status : Answered

Chosen Option : 1

Q.1 ਦਿੱਤੇ ਗਏ ਸ਼ਬਦਾਂ ਵਿੱਚੋਂ ਅਸ਼ੁੱਧ ਸ਼ਬਦ ਚੁਣੋ।  
6

Ans ✗ 1. ਪਾਣੀ

✓ 2. ਭਵਿੱਖ

✗ 3. ਕਾਗਜ਼

✗ 4. ਤਕਨੀਕ

Question ID : 441009325302

Option 1 ID : 4410091267526

Option 2 ID : 4410091267527

Option 3 ID : 4410091267525

Option 4 ID : 4410091267524

Status : Answered

Chosen Option : 2

Q.1 ਹੇਠਲੇ ਵਾਕਾਂ ਵਿੱਚੋਂ ਕਿਹੜਾ ਵਾਕ ਸਹੀ ਨਹੀਂ ਹੈ?  
7

Ans ✗ 1. ਸਤਬੀਰ ਕੋਲ ਜਾਣ ਦਾ ਕੋਈ ਫ਼ਾਇਦਾ ਨਹੀਂ।

✗ 2. ਭਜਨ ਕੌਰ ਆਪਣੀ ਦਰਾਣੀ ਵਿੱਚ ਹਮੇਸ਼ਾ ਨੁਕਸ ਕੱਢਦੀ ਰਹਿੰਦੀ ਹੈ।

✗ 3. ਉਹ ਦੁਰਘਟਨਾ ਵਿੱਚ ਲੱਤ ਤੁੜਵਾ ਬੈਠਾ ਹੈ।

✓ 4. ਅੱਜ ਬਚੇ ਆਪਸ ਬਿੱਚ ਫਿਰ ਲੜ ਪਏ।

Question ID : 441009286709

Option 1 ID : 4410091113811

Option 2 ID : 4410091113810

Option 3 ID : 4410091113808

Option 4 ID : 4410091113809

Status : Answered

Chosen Option : 3

Q.1 ਹੇਠ ਦਿੱਤੇ ਸ਼ਬਦਾਂ ਵਿਚੋਂ ਮੂਲ ਸ਼ਬਦ ਚੁਣੋ ਜੋ ਅਗੇਤਰ ਜਾਂ ਪਿਛੇਤਰ ਤੋਂ ਬਿਨਾ ਬਣੇ ਹਨ:  
8

Ans  1. ਵਿਦੇਸ਼, ਬੇਅੰਤ  
 2. ਮੰਦਬੁੱਧੀ, ਦਰਦਨਾਕ  
 3. ਦਰਦ, ਘਰ  
 4. ਅਰੋਗ, ਚਿਤਰਕਾਰ

Question ID :	441009287122
Option 1 ID :	4410091115443
Option 2 ID :	4410091115442
Option 3 ID :	4410091115441
Option 4 ID :	4410091115440
Status :	Answered
Chosen Option :	3

Q.1 ਪੰਜਾਬੀ ਅਖਾਣ 'ਵਿਆਹ ਵਿੱਚ ਬੀ ਦਾ ਲੇਖਾ' ਦਾ ਕੀ ਭਾਵ ਹੈ?  
9

Ans  1. ਜਿਸ ਦੀ ਆਦਤ ਪੱਕ ਜਾਵੇ ਉਹ ਨਹੀਂ ਬਦਲਦੀ  
 2. ਵਿਹਲ ਵਿੱਚ ਫਜ਼ੂਲ ਕੰਮ ਕਰਨੇ  
 3. ਵਿਆਹ ਵਿੱਚ ਸਭ ਲੇਖਾ-ਜੋਖਾ ਕਰਦੇ ਹਨ  
 4. ਜ਼ਰੂਰੀ ਗੱਲ ਸਮੇਂ ਫਜ਼ੂਲ ਗੱਲਾਂ ਕਰਨੀਆਂ

Question ID :	441009326953
Option 1 ID :	4410091274178
Option 2 ID :	4410091274177
Option 3 ID :	4410091274179
Option 4 ID :	4410091274176
Status :	Answered
Chosen Option :	4

Q.2 ਕਲਜੁੱਗ ਵਿੱਚ ਕਿਹੜਾ ਅਗੇਤਰ ਲੱਗਿਆ ਹੈ?  
0

Ans  1. ਕਲਜ  
 2. ਕਲ  
 3. ਕ  
 4. ਕਲਜੁ

Question ID :	441009287633
Option 1 ID :	4410091117449
Option 2 ID :	4410091117448
Option 3 ID :	4410091117447
Option 4 ID :	4410091117450
Status :	Answered
Chosen Option :	2

Q.2 "ਵਿਦਵਾਨ" ਸ਼ਬਦ ਦਾ ਸਭ ਤੋਂ ਢੁਕਵਾਂ ਇਸਤ੍ਰੀਲਿੰਗ ਸ਼ਬਦ ਚੁਣੋ।  
1

- Ans
- 1. ਵਿਦਵਾਨੀ
  - 2. ਵਿਦੁਸ਼ੀ
  - 3. ਵਿਦਵਾਨਣੀ
  - 4. ਵਿਦਵਾਨਾ

Question ID :	441009302958
Option 1 ID :	4410091178424
Option 2 ID :	4410091178427
Option 3 ID :	4410091178426
Option 4 ID :	4410091178425
Status :	Answered
Chosen Option :	2

Q.2 ਹੇਠ ਦਿੱਤੇ ਸਵਾਲ ਵਿੱਚ, ਦਿੱਤੇ ਗਏ ਚਾਰ ਵਿਕਲਪਾਂ ਵਿੱਚੋਂ, ਉਹ ਵਿਕਲਪ ਚੁਣੋ ਜੋ ਮੁਹਾਵਰੇ ਦੇ ਅਰਥ ਨੂੰ ਸਭ ਤੋਂ ਵਧੀਆ ਢੰਗ ਨਾਲ ਪ੍ਰਗਟ ਕਰਦਾ ਹੈ।  
2

ਕਾਂਜੀ ਘੋਲਣਾ

- Ans
- 1. ਸੁਆਦ ਲਗਣਾ
  - 2. ਨਮਕੀਨ
  - 3. ਮਿੱਠਾ ਕਰਨਾ
  - 4. ਸੁਆਦ ਖਰਾਬ ਕਰਨਾ

Question ID :	441009325088
Option 1 ID :	4410091266659
Option 2 ID :	4410091266661
Option 3 ID :	4410091266658
Option 4 ID :	4410091266660
Status :	Answered
Chosen Option :	4

Q.2 ਸਹੀ ਵਾਕ ਦੀ ਚੋਣ ਕਰੋ:  
3

- Ans
- 1. ਮੈਨੂੰ ਪੰਝ ਰੁਪੇ ਦਿਓ।
  - 2. ਮੈਨੂੰ ਪੰਜ ਰੁਪਏ ਦਿਓ।
  - 3. ਮੈਨੂੰ ਪੰਜ ਰੁਪੇ ਦਿਓ।
  - 4. ਮੈਨੂੰ ਪੰਝ ਰੁਪੇ ਦਿਓ।

Question ID :	441009287518
Option 1 ID :	4410091117000
Option 2 ID :	4410091117001
Option 3 ID :	4410091117003
Option 4 ID :	4410091117002
Status :	Answered
Chosen Option :	2

Q.2 'ਹੱਥਾਂ ਬਾਝ ਕਰਾਰਿਆ \_\_\_\_\_' ਅਖਾਣ ਨੂੰ ਪੂਰਾ ਕਰੋ।  
4

- Ans
- 1. ਵੈਰੀ ਜਿੱਤ ਨਾ ਹੋਣ
  - 2. ਵੈਰੀ ਸਿਰ ਚੜ੍ਹ ਆਉਣ
  - 3. ਜੰਗਾਂ ਜਿੱਤ ਨਾ ਹੋਣ
  - 4. ਵੈਰੀ ਮਿੱਤ ਨਾ ਹੋਣ

Question ID : 441009267570

Option 1 ID : 4410091039525

Option 2 ID : 4410091039527

Option 3 ID : 4410091039526

Option 4 ID : 4410091039524

Status : Answered

Chosen Option : 3

Q.2 ਦਿੱਤੇ ਗਏ ਸ਼ਬਦਾਂ ਵਿੱਚੋਂ ਸਹੀ ਪੰਜਾਬੀ ਸ਼ਬਦ ਚੁਣੋ।  
5

- Ans
- 1. ਸਬਕ
  - 2. ਸਬਕਕ
  - 3. ਸਬਕਾ
  - 4. ਸਾਬਕ

Question ID : 441009305405

Option 1 ID : 4410091188353

Option 2 ID : 4410091188350

Option 3 ID : 4410091188351

Option 4 ID : 4410091188352

Status : Answered

Chosen Option : 1

Q.2 ਸਹੀ ਵਾਕ ਦੀ ਚੋਣ ਕਰੋ:  
6

- Ans
- 1. ਮਕਾਰ ਸਾਧੂਆਂ ਤੋਂ ਬੱਚ ਕੇ ਰਹੇ।
  - 2. ਮੱਕਾਰ ਸਾਧੂਆਂ ਤੋਂ ਬੱਚ ਕੇ ਰਹੇ।
  - 3. ਮੱਕਾਰ ਸਾਧੂਆਂ ਤੋਂ ਬੱਚ ਕੇ ਰਹੇ।
  - 4. ਮਕਾਰ ਸਾਧੂਆਂ ਤੋਂ ਬੱਚ ਕੇ ਰਹੇ।

Question ID : 441009287202

Option 1 ID : 4410091115753

Option 2 ID : 4410091115752

Option 3 ID : 4410091115754

Option 4 ID : 4410091115755

Status : Answered

Chosen Option : 3

Q.2 ਅਤੇ, 'ਜਾਂ', ਅਤੇ 'ਪਰ' ਵਰਗੇ ਸ਼ਬਦ ਪੰਜਾਬੀ ਸ਼ਬਦਾਂ ਦੀ ਕਿਸ ਸ਼੍ਰੇਣੀ ਨਾਲ ਸਬੰਧਤ ਹਨ?  
7

- Ans
- 1. ਵਿਸਮਿਕ
  - 2. ਯੋਜਕ
  - 3. ਨਾਂਵ
  - 4. ਵਿਸ਼ੇਸ਼ਣ

Question ID :	441009310780
Option 1 ID :	4410091209612
Option 2 ID :	4410091209613
Option 3 ID :	4410091209614
Option 4 ID :	4410091209615
Status :	Answered
Chosen Option :	2

Q.2 ਹੇਠਲੇ ਵਿੱਚੋਂ ਕਿਹੜਾ ਵਾਕ ਸਹੀ ਹੈ?  
8

- Ans
- 1. ਉਹ ਬਜ਼ਾਰ ਗਏ ਸੀ।
  - 2. ਤੁਸੀਂ ਕਦੋਂ ਆਈ ਸੀ?
  - 3. ਮੈਂ ਗੀਤ ਗਾ ਰਹੀ ਸੀ।
  - 4. ਅਸੀਂ ਕਲਾਸ ਵਿੱਚ ਜਾ ਰਹੇ ਸੀ।

Question ID :	441009294178
Option 1 ID :	4410091143750
Option 2 ID :	4410091143749
Option 3 ID :	4410091143752
Option 4 ID :	4410091143751
Status :	Answered
Chosen Option :	3

Q.2 ਦਿੱਤੇ ਗਏ ਚਾਰਾਂ ਵਿਕਲਪਾਂ 'ਚੋਂ ਸ਼ੁੱਧ ਸ਼ਬਦ ਚੁਣੋ।  
9

ਸੁੱਧਾਰ

- Ans
- 1. ਸੁਧਾਰੇ
  - 2. ਸੁਧਾਰਨ
  - 3. ਸੁਧਾਰ
  - 4. ਸੁੱਧਾਰਾ

Question ID :	441009305364
Option 1 ID :	4410091188193
Option 2 ID :	4410091188192
Option 3 ID :	4410091188190
Option 4 ID :	4410091188191
Status :	Answered
Chosen Option :	3

Q.3 0 ਹੇਠ ਦਿੱਤੇ ਸ਼ਬਦਾਂ ਵਿਚੋਂ 'ਬਤੌਰੀ' ਦਾ ਲਿੰਗ ਬਦਲੋ :

Ans  1. ਬਤੌਰ

2. ਬਤਖ

3. ਉੱਲੂ

4. ਤੁਰਕ

Question ID :	441009329315
Option 1 ID :	4410091283686
Option 2 ID :	4410091283687
Option 3 ID :	4410091283684
Option 4 ID :	4410091283685
Status :	Answered
Chosen Option :	3

Q.3 1 "ਭਰਾ" ਕਿਸ ਲਿੰਗ ਦਾ ਸ਼ਬਦ ਹੈ?

Ans  1. ਨਪੁੰਸਕ ਲਿੰਗ

2. ਇਸਤ੍ਰੀਲਿੰਗ

3. ਪੁਲਿੰਗ

4. ਦੋਹਾਂ ਲਿੰਗਾਂ ਦਾ ਜੋੜ

Question ID :	441009288113
Option 1 ID :	4410091119353
Option 2 ID :	4410091119352
Option 3 ID :	4410091119351
Option 4 ID :	4410091119354
Status :	Answered
Chosen Option :	3

Q.3 2 What is the correct Punjabi translation of the sentence below?  
"There was a delay in filing the chargesheet."

Ans  1. ਚਾਰਜਸ਼ੀਟ ਦਾਇਰ ਕਰਨ ਵਿੱਚ ਦੇਰੀ ਹੋਈ

2. ਚਾਰਜਸ਼ੀਟ ਰੱਦ ਹੋ ਗਈ

3. ਚਾਰਜਸ਼ੀਟ ਮੁਲਜ਼ਮ ਨੂੰ ਮਿਲ ਗਈ

4. ਚਾਰਜਸ਼ੀਟ ਲਿਖਣ ਵਿੱਚ ਜਲਦੀ ਹੋਈ

Question ID :	441009309924
Option 1 ID :	4410091206205
Option 2 ID :	4410091206206
Option 3 ID :	4410091206207
Option 4 ID :	4410091206204
Status :	Answered
Chosen Option :	1

Q.3	ਪੰਜਾਬੀ ਕੈਲੰਡਰ ਦਾ ਚੇਤ ਮਹੀਨਾ ਗ੍ਰੈਗੋਰੀਅਨ ਕੈਲੰਡਰ ਦੇ ਕਿਹੜੇ ਮਹੀਨਿਆਂ ਵਿੱਚ ਆਉਂਦਾ ਹੈ?
3	
Ans	<input type="checkbox"/> 1. ਮਾਰਚ - ਅਪ੍ਰੈਲ
	<input type="checkbox"/> 2. ਮਾਰਚ - ਅਪ੍ਰੈਲ
	<input checked="" type="checkbox"/> 3. ਮਾਰਚ - ਅਪ੍ਰੈਲ
	<input type="checkbox"/> 4. ਮਾਰਚ - ਅਪ੍ਰੈਲ

Question ID :	441009310136
Option 1 ID :	4410091207034
Option 2 ID :	4410091207035
Option 3 ID :	4410091207033
Option 4 ID :	4410091207032
Status :	Answered
Chosen Option :	3

Q.3	ਪੰਜਾਬੀ ਵਿੱਚ, ਹੇਠ ਲਿਖਿਆਂ ਵਿੱਚੋਂ ਕਿਹੜਾ ਸ਼ਬਦ ਇੱਕ ਅਜਿਹੇ ਸੰਬੰਧਕੀ ਵਾਕਾਂਸ਼ ਦੀ ਉਦਾਹਰਨ ਹੈ ਜੋ ਕਿਸੇ ਕਾਰਜ ਦੇ ਕਾਰਨ ਜਾਂ ਉਦੇਸ਼ ਨੂੰ ਗੁੰਝਲਦਾਰ ਤਰੀਕੇ ਨਾਲ ਦਰਸਾਉਂਦਾ ਹੈ?
4	
Ans	<input type="checkbox"/> 1. ਦੇ ਬਾਵਜੂਦ
	<input type="checkbox"/> 2. ਤੋਂ ਬਿਨਾਂ
	<input checked="" type="checkbox"/> 3. ਦੇ ਕਾਰਨ
	<input type="checkbox"/> 4. ਦੇ ਨਾਲ

Question ID :	441009310839
Option 1 ID :	4410091209847
Option 2 ID :	4410091209846
Option 3 ID :	4410091209845
Option 4 ID :	4410091209844
Status :	Answered
Chosen Option :	2

Q.3	ਸਹੀ ਵਿਕਲਪ ਚੁਣੋ:
5	
Ans	<input type="checkbox"/> 1. ਮਾਸਟਰ ਜੀ ਤੁਸੀਂ ਅੱਜ ਛੁੱਟੀਆਂ ਦਾ ਕੰਮ ਵੇਖਣਾ ਏ।
	<input checked="" type="checkbox"/> 2. ਮਾਸਟਰ ਜੀ, ਤੁਸੀਂ ਅੱਜ ਛੁੱਟੀਆਂ ਦਾ ਕੰਮ ਵੇਖਣਾ ਏ।
	<input type="checkbox"/> 3. ਮਾਸਟਰ ਜੀ, ਤੁਸੀਂ ਅੱਜ ਛੁੱਟੀਆਂ ਦਾ ਕੰਮ ਵੇਖਣਾ ਏ !
	<input type="checkbox"/> 4. ਮਾਸਟਰ ਜੀ, "ਤੁਸੀਂ ਅੱਜ ਛੁੱਟੀਆਂ ਦਾ ਕੰਮ ਵੇਖਣਾ ਏ।"

Question ID :	441009326986
Option 1 ID :	4410091274304
Option 2 ID :	4410091274305
Option 3 ID :	4410091274306
Option 4 ID :	4410091274307
Status :	Answered
Chosen Option :	4

Q.3 ਇਹਨਾਂ..... ਵਿੱਚ ਤੇਲ ਨਹੀਂ ਅਖਾਣ ਪੂਰਾ ਕਰਨ ਲਈ ਸਹੀ ਸ਼ਬਦ ਚੁਣੋ।  
6

- Ans
- 1. ਘੜਿਆਂ
  - 2. ਪਹਾੜਾਂ
  - 3. ਤਿਲਾਂ
  - 4. ਝਰਨਿਆਂ

Question ID :	441009286662
Option 1 ID :	4410091113621
Option 2 ID :	4410091113623
Option 3 ID :	4410091113622
Option 4 ID :	4410091113620
Status :	Answered
Chosen Option :	3

Q.3 ਛੇਲਿਆਂ ਨਾਲ \_\_\_ ਵੀ ਪਿਸ ਜਾਂਦਾ ਹੈ। ਅਖਾਣ ਪੂਰਾ ਕਰੋ।  
7

- Ans
- 1. ਆਟਾ
  - 2. ਘੁਣ
  - 3. ਦਾਲ
  - 4. ਵੇਸਟ

Question ID :	441009290549
Option 1 ID :	4410091129105
Option 2 ID :	4410091129106
Option 3 ID :	4410091129104
Option 4 ID :	4410091129107
Status :	Answered
Chosen Option :	3

Q.3 ਹੇਠ ਦਿੱਤੇ ਸਵਾਲ ਵਿੱਚ, ਦਿੱਤੇ ਗਏ ਚਾਰ ਵਿਕਲਪਾਂ ਵਿੱਚੋਂ, ਉਹ ਵਿਕਲਪ ਚੁਣੋ ਜੋ ਮੁਹਾਵਰੇ/ਵਾਕਾਂਸ਼ ਦੇ ਅਰਥ ਨੂੰ ਸਭ ਤੋਂ ਵਧੀਆ  
8 ਢੰਗ ਨਾਲ ਪ੍ਰਗਟ ਕਰਦਾ ਹੈ।

ਜਿੰਨਾ ਗੁੜ ਪਾਓਗੇ ਓਨਾ ਮਿੱਠਾ ਹੋਵੇਗਾ

- Ans
- 1. ਪਿਆਰ ਨਾਲ ਹੀ ਪਿਆਰ ਮਿਲਦਾ ਹੈ
  - 2. ਘੱਟ ਮਿਹਨਤ ਨਾਲ ਸਫਲਤਾ ਮਿਲਦੀ ਹੈ
  - 3. ਪੈਸੇ ਨਾਲ ਸਭ ਕੁੱਝ ਖਰੀਦਿਆ ਜਾ ਸਕਦਾ ਹੈ
  - 4. ਗੁੱਸੇ ਨਾਲ ਹੀ ਦੋਸਤੀ ਬਣਦੀ ਹੈ

Question ID :	441009287953
Option 1 ID :	4410091118712
Option 2 ID :	4410091118714
Option 3 ID :	4410091118713
Option 4 ID :	4410091118711
Status :	Answered
Chosen Option :	1

Q.3 ਦਿੱਤੇ ਗਏ ਸ਼ਬਦ ਦਾ ਸਭ ਤੋਂ ਢੁਕਵਾਂ ਵਿਰੋਧਾਰਥਕ ਸ਼ਬਦ ਚੁਣੋ।  
9

ਭਰਿਆ

Ans  1. ਛੋਟਾ

2. ਖਾਲੀ

3. ਕੱਪ

4. ਪੁਰਾ

Question ID : 441009301294

Option 1 ID : 4410091172295

Option 2 ID : 4410091172294

Option 3 ID : 4410091172292

Option 4 ID : 4410091172293

Status : Answered

Chosen Option : 2

Q.4 “ਲੇਖਕ” ਸ਼ਬਦ ਦਾ ਸਭ ਤੋਂ ਢੁਕਵਾਂ ਇਸਤ੍ਰੀਲਿੰਗ ਸ਼ਬਦ ਚੁਣੋ।  
0

Ans  1. ਲੇਖਕਾ

2. ਲੇਖ

3. ਲੇਖਣੀ

4. ਲੇਖਕੀ

Question ID : 441009302918

Option 1 ID : 4410091178313

Option 2 ID : 4410091178315

Option 3 ID : 4410091178314

Option 4 ID : 4410091178312

Status : Answered

Chosen Option : 1

Q.4 ਦਿੱਤੇ ਗਏ ਸ਼ਬਦ ਦਾ ਸਭ ਤੋਂ ਢੁਕਵਾਂ ਸਮਾਨਾਰਥਕ ਸ਼ਬਦ ਚੁਣੋ।  
1

ਸਭਾ

Ans  1. ਬੈਠਕ

2. ਸਿੱਖਿਆ

3. ਲੋਕ

4. ਕਲਾਸ

Question ID : 441009301421

Option 1 ID : 4410091172798

Option 2 ID : 4410091172800

Option 3 ID : 4410091172799

Option 4 ID : 4410091172801

Status : Answered

Chosen Option : 1

Q.4	ਦਿੱਤੇ ਗਏ ਸ਼ਬਦਾਂ ਵਿੱਚੋਂ ਅਸ਼ੁੱਧ ਸ਼ਬਦ ਚੁਣੋ।
2	
Ans	<input checked="" type="checkbox"/> 1. ਜਾਨਵਰ <input checked="" type="checkbox"/> 2. ਜਾਨਵਰੇ <input checked="" type="checkbox"/> 3. ਜਾਨਵਰਾਂ <input checked="" type="checkbox"/> 4. ਪਸ਼ੂ

Question ID :	441009325318
Option 1 ID :	4410091267588
Option 2 ID :	4410091267591
Option 3 ID :	4410091267589
Option 4 ID :	4410091267590
Status :	Answered
Chosen Option :	2

Q.4	ਸਹੀ ਵਿਰੋਧੀ ਜੋੜਾ ਚੁਣੋ
3	
Ans	<input checked="" type="checkbox"/> 1. ਕਾਮ / ਅਕਾਮ <input checked="" type="checkbox"/> 2. ਦੌੜ / ਚੱਲਣਾ <input checked="" type="checkbox"/> 3. ਅੱਗ / ਧੂੰਆਂ <input checked="" type="checkbox"/> 4. ਹੱਸਣਾ / ਰੋਣਾ

Question ID :	441009288726
Option 1 ID :	4410091121880
Option 2 ID :	4410091121879
Option 3 ID :	4410091121881
Option 4 ID :	4410091121878
Status :	Answered
Chosen Option :	4

Q.4	"ਕਿਸ਼ਤੀਆਂ" ਸ਼ਬਦ ਦਾ ਇਕਵਚਨ ਕੀ ਹੋਵੇਗਾ?
4	
Ans	<input checked="" type="checkbox"/> 1. ਕਿਸ਼ਤੀਏ <input checked="" type="checkbox"/> 2. ਕਿਸ਼ਤੀ <input checked="" type="checkbox"/> 3. ਕਿਸ਼ਤਿ <input checked="" type="checkbox"/> 4. ਕਿਸ਼ਤੀਆਂ

Question ID :	441009326730
Option 1 ID :	4410091273287
Option 2 ID :	4410091273284
Option 3 ID :	4410091273286
Option 4 ID :	4410091273285
Status :	Answered
Chosen Option :	2

Q.4 ਹੇਠਾਂ ਦਿੱਤੇ ਗਏ ਦਾ ਪੰਜਾਬੀ ਅਨੁਵਾਦ ਕਰੋ, “ When two or more computers are connected with each-other, it is called computer network.”

- Ans
- 1. ਜਦੋਂ ਦੋ ਜਾਂ ਉਸ ਤੋਂ ਵੱਧ ਕੰਪਿਊਟਰਾਂ ਨੂੰ ਆਸ-ਪਾਸ ਰੱਖਿਆ ਜਾਂਦਾ ਹੈ, ਤਾਂ ਉਸਨੂੰ ਸਜਾਲ ਕੰਪਿਊਟਰ ਕਿਹਾ ਜਾਂਦਾ ਹੈ।
  - 2. ਜਦੋਂ ਦੋ ਜਾਂ ਵੱਡੇ ਕੰਪਿਊਟਰ ਇੱਕ-ਦੂਜੇ ਨਾਲ ਜੁੜਨ ਤਾਂ ਉਸਨੂੰ ਕੰਪਿਊਟਰ ਜਾਲ ਕਿਹਾ ਜਾਂਦਾ ਹੈ।
  - 3. ਜਦੋਂ ਦੋ ਜਾਂ ਦੋ ਤੋਂ ਵੱਧ ਕੰਪਿਊਟਰਾਂ ਨੂੰ ਆਪਸ ਵਿੱਚ ਰੱਸੀ ਨਾਲ ਬੰਨ੍ਹਿਆ ਜਾਂਦਾ ਹੈ, ਤਾਂ ਉਸਨੂੰ ਕੰਪਿਊਟਰ ਨੈੱਟਵਰਕ ਕਿਹਾ ਜਾਂਦਾ ਹੈ।
  - 4. ਜਦੋਂ ਦੋ ਜਾਂ ਦੋ ਤੋਂ ਵੱਧ ਕੰਪਿਊਟਰ ਆਪਸ ਵਿੱਚ ਜੁੜਨ ਤਾਂ ਉਸਨੂੰ ਕੰਪਿਊਟਰ ਨੈੱਟਵਰਕ ਕਿਹਾ ਜਾਂਦਾ ਹੈ।

Question ID :	441009281151
Option 1 ID :	4410091092493
Option 2 ID :	4410091092492
Option 3 ID :	4410091092494
Option 4 ID :	4410091092491
Status :	Answered
Chosen Option :	4

Q.4 ਹੇਠਾਂ ਦਿੱਤੀਆਂ ਵਿੱਚੋਂ ਸਹੀ ਸ਼ਬਦ ਚੁਣੋ ਜੋ ਸ਼ੁੱਧ ਪੰਜਾਬੀ ਵਿਚ ਲਿਖਿਆ ਗਿਆ ਹੋਵੇ:

- Ans
- 1. ਅਸਲੀਅਤ
  - 2. ਅਸਲਿਅਤ
  - 3. ਅਸਲਈਅਤ
  - 4. ਅਸਲਿਯਤ

Question ID :	441009287929
Option 1 ID :	4410091118615
Option 2 ID :	4410091118616
Option 3 ID :	4410091118618
Option 4 ID :	4410091118617
Status :	Answered
Chosen Option :	1

Q.4 ਜੋ ਜਿੱਤਿਆ ਹਾਰਿਆ ਨਾ ਜਾ ਸਕੇ ਲਈ ਬਹੁਤੇ ਸ਼ਬਦਾਂ ਦੀ ਥਾਂ ਇਕ ਸ਼ਬਦ ਦੀ ਚੋਣ ਕਰੋ।

- Ans
- 1. ਪਰਮ
  - 2. ਅਜਿੱਤ
  - 3. ਜੇਤੂ
  - 4. ਅਡੋਲ

Question ID :	441009303544
Option 1 ID :	4410091180818
Option 2 ID :	4410091180816
Option 3 ID :	4410091180817
Option 4 ID :	4410091180819
Status :	Answered
Chosen Option :	4

Test

Prime

By Adda247

# Previous Year Papers PDF

PRACTICE MORE, SCORE HIGHER!



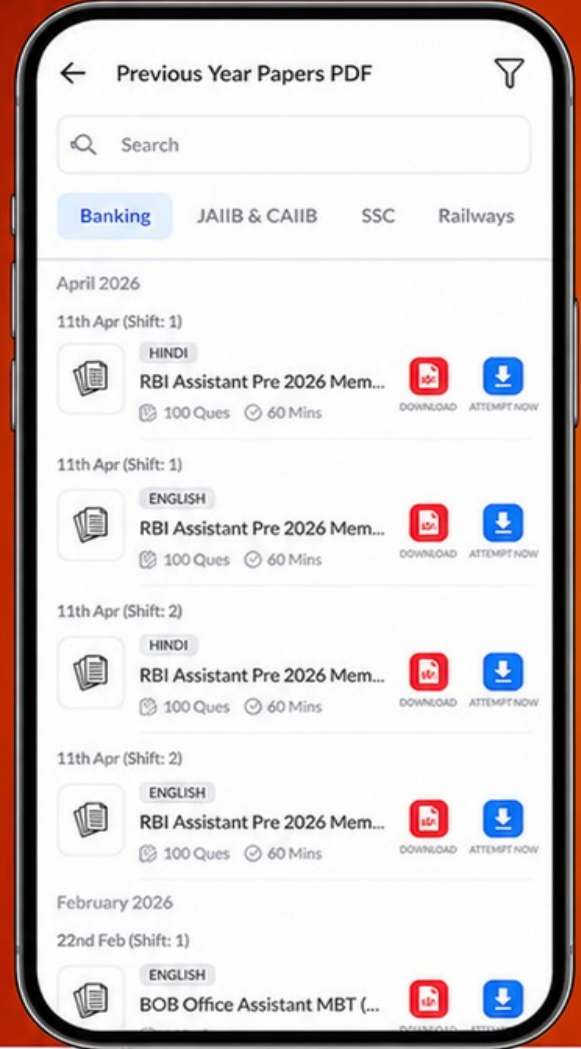
Free  
**25,000+**  
PDF's

High-Quality | Exam-Wise | Updated Regularly

ATTEMPT AS  
**MOCK**



Turn PDFs into real exam experience.  
Analyze. Improve. Succeed.



Topic-wise & Exam-wise PDFs



Download & Study Offline



Attempt as Mock & Track Score



Smart Analysis & Performance

AVAILABLE IN



Banking



SSC



Railway



Teaching



UGC



Agriculture



Nursing



Bihar



UP



Punjab



WB



Odisha



TN



AP & Telangana



Haryana



DOWNLOAD THE APP



Q.4 ਪ੍ਰੀਤਮ ਨੇ ਖੁਦ .....ਭੋਜਨ ਖਾਧਾ ਤੇ ਦੋਸਤ ਨੂੰ.....ਭੋਜਨ ਖਵਾਇਆ। ਸਹੀ ਵਿਰੋਧੀ ਜੋੜਾ ਦੱਸੋ।  
8

- Ans
- 1. ਸੁੱਚਾ/ ਰੁੱਖਾ
  - 2. ਸੁੱਚਾ/ ਖੱਟਾ
  - 3. ਸੁੱਚਾ/ਲੂਣਾ
  - 4. ਸੁੱਚਾ/ਜੂਠਾ

Question ID :	441009267277
Option 1 ID :	4410091038359
Option 2 ID :	4410091038361
Option 3 ID :	4410091038362
Option 4 ID :	4410091038360
Status :	Answered
Chosen Option :	4

Q.4 English Sentence: "The committee deliberated for hours before reaching a consensus on the contentious issue."  
9  
What is the correct Punjabi translation among these options?

- Ans
- 1. "ਮੰਡਲੀ ਨੇ ਲੜਾਈ ਵਾਲੇ ਮਾਮਲੇ 'ਤੇ ਇੱਕ ਮੱਤ ਹੋਣ ਤੋਂ ਪਹਿਲਾਂ ਬਹੁਤ ਸਮਾਂ ਬਹਿਸ ਕੀਤੀ।"
  - 2. "ਪੰਚਾਇਤ ਨੇ ਝਗੜੇ ਵਾਲੇ ਵਿਸ਼ੇ 'ਤੇ ਸਹਿਮਤ ਹੋਣ ਤੋਂ ਪਹਿਲਾਂ ਕਈ ਘੰਟੇ ਸੋਚ ਵਿਚਾਰ ਕੀਤਾ।"
  - 3. "ਕਮੇਟੀ ਨੇ ਵਿਵਾਦਪੂਰਨ ਮੁੱਦੇ 'ਤੇ ਸਹਿਮਤੀ 'ਤੇ ਪਹੁੰਚਣ ਤੋਂ ਪਹਿਲਾਂ ਘੰਟਿਆਂ ਤੱਕ ਵਿਚਾਰ ਵਟਾਂਦਰਾ ਕੀਤਾ।"
  - 4. "ਸਮਿਤੀ ਨੇ ਝਗੜਾਲੂ ਮਸਲੇ 'ਤੇ ਇੱਕੋ ਜਿਹੀ ਰਾਏ ਬਣਾਉਣ ਤੋਂ ਪਹਿਲਾਂ ਕਈ ਘੰਟੇ ਗੱਲਬਾਤ ਕੀਤੀ।"

Question ID :	441009329559
Option 1 ID :	4410091284676
Option 2 ID :	4410091284677
Option 3 ID :	4410091284674
Option 4 ID :	4410091284675
Status :	Answered
Chosen Option :	3

Q.5 ਚਮੜੀ ਜਾਏ, \_\_\_ਨਾ ਜਾਏ - ਅਖਾਣ ਪੂਰਾ ਕਰੋ।  
0

- Ans
- 1. ਲੜਨੀ
  - 2. ਦਮੜੀ
  - 3. ਪਰਨੀ
  - 4. ਭਰਨੀ

Question ID :	441009290566
Option 1 ID :	4410091129174
Option 2 ID :	4410091129172
Option 3 ID :	4410091129173
Option 4 ID :	4410091129175
Status :	Answered
Chosen Option :	2