

**Q.1** The traditional dress of women in Punjab is \_\_\_\_\_.

**Ans**  1. Punjabi Salwar Suit

2. Punjabi Kurta Pajama

3. Punjabi Saree

4. Punjabi Ghagra Choli

Question ID : 441009127594

Option 1 ID : 441009507001

Option 2 ID : 441009507003

Option 3 ID : 441009507002

Option 4 ID : 441009507004

Status : Answered

Chosen Option : 1

**Q.2** Kabir hears about a body that ensures fair opportunities for certain non-tribal communities in education and jobs. Which one is it?

**Ans**  1. National Commission for Safai Karamcharis

2. National Commission for Scheduled Tribes

3. National Commission for Women

4. National Commission for Backward Classes

Question ID : 441009106948

Option 1 ID : 441009425825

Option 2 ID : 441009425824

Option 3 ID : 441009425822

Option 4 ID : 441009425823

Status : Answered

Chosen Option : 2

**Q.3** Athletes require an increased intake of protein for:

**Ans**  1. increased intelligence

2. sweating

3. sleep improvement

4. muscle repair

Question ID : 441009142224

Option 1 ID : 441009565045

Option 2 ID : 441009565043

Option 3 ID : 441009565044

Option 4 ID : 441009565042

Status : Answered

Chosen Option : 4

**Test  
Prime**

By Adda247

# ALL EXAMS, ONE SUBSCRIPTION



Test. Analyze. Improve. Repeat.



**Don't just *prepare*. *Perform*.**

Test Prime — built only for mock tests.



**1,50,000+**  
Mock Tests



**25,000+**  
Previous Year Papers



**800+**  
Exam Covered



**500% Refund**  
on Selection



**5 lakh+**  
Free Quizzes



**Daily**  
Free PDFs



**Job Alerts**  
Stay Updated

- Multilingual
- Detailed Solution
- Strong and Weak Areas



**All India  
Rankings**

Compete with lakhs.  
Rank. Improve. Repeat.



← Adda247 test prime

Rating ▾

Editors' choice

New



Adda247 Test Prime  
Adda Education • Education  
📌 Installed



**DOWNLOAD THE APP**



Q.4 As of 2024, under the 'Har Ghar Jal' initiative, what is the status of Punjab in ensuring piped water supply to rural households?

Ans  1. 100% piped water supply has been achieved to rural households.

2. 80% piped water supply has been achieved to rural households.

3. 50% piped water supply has been achieved to rural households.

4. 90% piped water supply has been achieved to rural households.

Question ID : 441009127560

Option 1 ID : 441009506865

Option 2 ID : 441009506866

Option 3 ID : 441009506868

Option 4 ID : 441009506867

Status : Answered

Chosen Option : 2

Q.5 Which of the following universities was declared the 1<sup>st</sup> runner-up of the Maulana Abul Kalam Azad Trophy (MAKA Trophy) for excellence in sports, in January 2025?

Ans  1. Guru Nanak Dev University

2. Chitkara University

3. Lovely Professional University

4. Maharaja Ranjit Singh Punjab Technical University

Question ID : 441009115304

Option 1 ID : 441009458650

Option 2 ID : 441009458648

Option 3 ID : 441009458649

Option 4 ID : 441009458651

Status : Answered

Chosen Option : 1

Q.6 What are the three types of Urban Local Bodies in India provided by the 74<sup>th</sup> Constitutional Amendment Act?

Ans  1. Rajya Sabha, Lok Sabha and Vidhan Sabha

2. High Court, Supreme Court and District Court

3. Municipal Corporation, Municipality and Nagar Panchayat

4. Gram Panchayat, Zila Parishad and Block Samiti

Question ID : 441009123265

Option 1 ID : 441009489962

Option 2 ID : 441009489963

Option 3 ID : 441009489961

Option 4 ID : 441009489960

Status : Answered

Chosen Option : 2

<b>Q.7</b>	Which of the following is considered a complex carbohydrate?
<b>Ans</b>	<input checked="" type="checkbox"/> 1. Rice <input type="checkbox"/> 2. Fruits <input type="checkbox"/> 3. Sugar <input type="checkbox"/> 4. Milk

Question ID :	441009102875
Option 1 ID :	441009409514
Option 2 ID :	441009409516
Option 3 ID :	441009409513
Option 4 ID :	441009409515
Status :	Answered
Chosen Option :	2

<b>Q.8</b>	In 2024, the West Bengal Assembly passed a law to improve school safety after a Kolkata building collapse. Which Article of the Indian constitution gives the Governor the power to approve such state laws?
<b>Ans</b>	<input type="checkbox"/> 1. Article 175 <input type="checkbox"/> 2. Article 201 <input type="checkbox"/> 3. Article 171 <input checked="" type="checkbox"/> 4. Article 200

Question ID :	441009123014
Option 1 ID :	441009488967
Option 2 ID :	441009488966
Option 3 ID :	441009488968
Option 4 ID :	441009488965
Status :	Answered
Chosen Option :	3

<b>Q.9</b>	What are the respective poverty headcount ratios for rural and urban Punjab as per the Punjab Economic Survey 2023-24?
<b>Ans</b>	<input checked="" type="checkbox"/> 1. 7.66% in rural areas and 9.24% in urban areas <input type="checkbox"/> 2. Both rural and urban areas are at 8.26% <input type="checkbox"/> 3. 22.4% for rural and 20.9% for urban areas <input type="checkbox"/> 4. 9.24% in rural areas and 7.66% in urban areas

Question ID :	441009135836
Option 1 ID :	441009539834
Option 2 ID :	441009539836
Option 3 ID :	441009539837
Option 4 ID :	441009539835
Status :	Answered
Chosen Option :	4

Q.1 Which of the following leaders was NOT directly associated with the operational leadership of the Ghadar Party?

- Ans
- 1. Kanshi Ram
  - 2. Lala Lajpat Rai
  - 3. Lala Hardyal
  - 4. Baba Sohan Singh Bhakna

Question ID : 441009100698

Option 1 ID : 441009400779

Option 2 ID : 441009400781

Option 3 ID : 441009400780

Option 4 ID : 441009400778

Status : Answered

Chosen Option : 1

Q.1 How many books were approved for the Sahitya Akademi Translation Prize 2024?

- Ans
- 1. 25
  - 2. 24
  - 3. 22
  - 4. 23

Question ID : 441009116429

Option 1 ID : 441009463138

Option 2 ID : 441009463137

Option 3 ID : 441009463135

Option 4 ID : 441009463136

Status : Answered

Chosen Option : 3

Q.1 What is primary cause of obesity in adults?

- Ans
- 1. Only genetic factors
  - 2. Drinking too much water
  - 3. Lack of sleep
  - 4. Energy imbalance

Question ID : 441009127786

Option 1 ID : 441009507770

Option 2 ID : 441009507772

Option 3 ID : 441009507771

Option 4 ID : 441009507769

Status : Answered

Chosen Option : 4

<b>Q.1</b>	<b>Which of the following is the correct statement in reference to oils and fats in our meals?</b>
<b>3</b>	
<b>Ans</b>	<input checked="" type="checkbox"/> 1. Butter is a rich source of vitamin D.
	<input type="checkbox"/> 2. Fats and oils are not required for growth.
	<input type="checkbox"/> 3. Oilseeds do not contain fat.
	<input type="checkbox"/> 4. Fats and oils should be skipped strictly from the meal.

Question ID :	441009146936
Option 1 ID :	441009583559
Option 2 ID :	441009583558
Option 3 ID :	441009583560
Option 4 ID :	441009583561
Status :	Answered
Chosen Option :	4

<b>Q.1</b>	<b>How is each State divided for the purpose of elections?</b>
<b>4</b>	
<b>Ans</b>	<input type="checkbox"/> 1. Into regions according to economic activity
	<input type="checkbox"/> 2. Into districts based on population density
	<input type="checkbox"/> 3. Into zones based on geographical features
	<input checked="" type="checkbox"/> 4. Into different areas or constituencies

Question ID :	441009117886
Option 1 ID :	441009468723
Option 2 ID :	441009468720
Option 3 ID :	441009468722
Option 4 ID :	441009468721
Status :	Answered
Chosen Option :	3

<b>Q.1</b>	<b>Among the events/sports they competed in at the 2025 National Games, sportspersons from Punjab won the most medals in _____.</b>
<b>5</b>	
<b>Ans</b>	<input type="checkbox"/> 1. Weightlifting
	<input checked="" type="checkbox"/> 2. Athletics
	<input type="checkbox"/> 3. Shooting
	<input type="checkbox"/> 4. Boxing

Question ID :	441009115432
Option 1 ID :	441009459153
Option 2 ID :	441009459155
Option 3 ID :	441009459152
Option 4 ID :	441009459154
Status :	Answered
Chosen Option :	2

Q.1 In which of the following places did Punjab Chief Minister Bhagwant Mann attend the  
6 76<sup>th</sup> Republic Day celebrations?

- Ans  1. Amritsar
2. Patiala
3. Jalandhar
4. Ludhiana

Question ID : 441009131330

Option 1 ID : 441009521883

Option 2 ID : 441009521886

Option 3 ID : 441009521885

Option 4 ID : 441009521884

Status : Answered

Chosen Option : 2

Q.1 How many teachers from Punjab were selected for National Teachers' Awards 2024?  
7

- Ans  1. Two
2. Five
3. Four
4. Six

Question ID : 441009115224

Option 1 ID : 441009458336

Option 2 ID : 441009458338

Option 3 ID : 441009458337

Option 4 ID : 441009458339

Status : Answered

Chosen Option : 3

Q.1 As of 19 March 2025, how many states and union territories has made the provision of  
8 50% of reservations for women in Panchayati Raj Institutions (PRI)?

- Ans  1. 24 states and 3 union territories
2. 21 states and 2 union territories
3. 23 states and 2 union territories
4. 22 states and 2 union territories

Question ID : 441009132353

Option 1 ID : 441009526175

Option 2 ID : 441009526174

Option 3 ID : 441009526176

Option 4 ID : 441009526173

Status : Answered

Chosen Option : 4

Q.1 9	Which of the following statements best describes a Constitution?
Ans	<input type="checkbox"/> 1. A set of rules followed only during emergencies
	<input type="checkbox"/> 2. A collection of ordinary laws passed by the government
	<input type="checkbox"/> 3. A collection of laws that is different for every state
	<input checked="" type="checkbox"/> 4. A body of fundamental principles that governs a state

Question ID :	441009123379
Option 1 ID :	441009490418
Option 2 ID :	441009490416
Option 3 ID :	441009490419
Option 4 ID :	441009490417
Status :	Answered
Chosen Option :	4

Q.2 0	Which of the following types of organisms is responsible for causing food infection upon ingestion?
Ans	<input type="checkbox"/> 1. Hormones
	<input type="checkbox"/> 2. Enzymes
	<input checked="" type="checkbox"/> 3. Microorganisms
	<input type="checkbox"/> 4. Toxins

Question ID :	441009127804
Option 1 ID :	441009507844
Option 2 ID :	441009507843
Option 3 ID :	441009507841
Option 4 ID :	441009507842
Status :	Answered
Chosen Option :	4

Q.2 1	Between which latitudes and longitudes does the Indian state of Punjab extend?
Ans	<input type="checkbox"/> 1. 28.20°N to 31.50°N and 72.50°E to 75.80°E
	<input checked="" type="checkbox"/> 2. 29.30°N to 32.32°N and 73.55°E to 76.50°E
	<input type="checkbox"/> 3. 30.15°N to 33.10°N and 74.20°E to 77.60°E
	<input type="checkbox"/> 4. 28.50°N to 31.80°N and 72.80°E to 75.30°E

Question ID :	441009100933
Option 1 ID :	441009401742
Option 2 ID :	441009401743
Option 3 ID :	441009401744
Option 4 ID :	441009401745
Status :	Answered
Chosen Option :	1

**Q.2** Which town in Punjab is the starting point of the National Highway 7 (NH-7)?  
2

**Ans**  1. Fazilka  
 2. Attari  
 3. Ferozepur  
 4. Amritsar

Question ID :	441009110308
Option 1 ID :	441009438805
Option 2 ID :	441009438806
Option 3 ID :	441009438807
Option 4 ID :	441009438804
Status :	Answered
Chosen Option :	2

**Q.2** Which of the following is the source of simple carbohydrates?  
3

**Ans**  1. Bread  
 2. Rice  
 3. Corn  
 4. Carrot

Question ID :	441009124217
Option 1 ID :	441009493780
Option 2 ID :	441009493782
Option 3 ID :	441009493781
Option 4 ID :	441009493779
Status :	Answered
Chosen Option :	2

**Q.2** Where did Defence Minister Rajnath Singh officially commission India's second Ship Submersible Ballistic Nuclear (SSBN) submarine on 29 August 2024?  
4

**Ans**  1. Chennai  
 2. Kandla  
 3. Visakhapatnam  
 4. Tuticorin

Question ID :	441009125269
Option 1 ID :	441009497941
Option 2 ID :	441009497940
Option 3 ID :	441009497938
Option 4 ID :	441009497939
Status :	Answered
Chosen Option :	3

Q.2  
5 Revolutionary nationalists like Bhagat Singh, Chandra Shekhar Azad, Sukhdev and others reorganised the Hindustan Republican Association into Hindustan Socialist Republican Association (HSRA) in 1928 at which of the following places?

Ans  1. Jalandhar

2. Delhi

3. Amritsar

4. Patna

Question ID : 441009115005

Option 1 ID : 441009457428

Option 2 ID : 441009457427

Option 3 ID : 441009457425

Option 4 ID : 441009457426

Status : Answered

Chosen Option : 3

Q.2  
6 If the Panchayat gets dissolved earlier on specific grounds in accordance to the State Legislation, the elections of the new Panchayat should take place within how many months of dissolution?

Ans  1. 6 months

2. 10 months

3. 12 months

4. 8 months

Question ID : 441009164890

Option 1 ID : 441009653200

Option 2 ID : 441009653198

Option 3 ID : 441009653197

Option 4 ID : 441009653199

Status : Answered

Chosen Option : 1

Q.2  
7 Which National Highway connects Attari, Amritsar and Hoshiarpur in Punjab?

Ans  1. NH-5

2. NH-3

3. NH-7

4. NH-10

Question ID : 44100992959

Option 1 ID : 441009369526

Option 2 ID : 441009369528

Option 3 ID : 441009369527

Option 4 ID : 441009369525

Status : Answered

Chosen Option : 3

<b>Q.2</b>	<b>The Central Bureau of Investigation operates under which of the following Union Ministries?</b>
<b>8</b>	
<b>Ans</b>	<input checked="" type="checkbox"/> 1. Ministry of Social Justice and Empowerment
	<input checked="" type="checkbox"/> 2. Ministry of Personnel, Public Grievances and Pensions
	<input checked="" type="checkbox"/> 3. Ministry of Home Affairs
	<input checked="" type="checkbox"/> 4. Ministry of Law & Justice

Question ID :	44100999821
Option 1 ID :	441009397231
Option 2 ID :	441009397228
Option 3 ID :	441009397229
Option 4 ID :	441009397230
Status :	Answered
Chosen Option :	4

<b>Q.2</b>	<b>What is the impact on children who consume only fast-food items like pizza, samosas, burgers and rich sources of fat?</b>
<b>9</b>	
<b>Ans</b>	<input checked="" type="checkbox"/> 1. Become obese
	<input checked="" type="checkbox"/> 2. Become healthy
	<input checked="" type="checkbox"/> 3. Become thin
	<input checked="" type="checkbox"/> 4. Become taller

Question ID :	441009124264
Option 1 ID :	441009493967
Option 2 ID :	441009493968
Option 3 ID :	441009493969
Option 4 ID :	441009493970
Status :	Answered
Chosen Option :	1

<b>Q.3</b>	<b>Which of the following statements about Judicial Review is true?</b>
<b>0</b>	
<b>Ans</b>	<input checked="" type="checkbox"/> 1. It is a fundamental aspect of the separation of powers and checks and balances.
	<input checked="" type="checkbox"/> 2. It is explicitly defined and limited to certain articles of the Indian Constitution.
	<input checked="" type="checkbox"/> 3. It allows the judiciary to legislate in the absence of parliamentary laws.
	<input checked="" type="checkbox"/> 4. It is an unlimited power that allows the judiciary to override any legislative or executive action.

Question ID :	441009114148
Option 1 ID :	441009454056
Option 2 ID :	441009454054
Option 3 ID :	441009454055
Option 4 ID :	441009454057
Status :	Answered
Chosen Option :	4

Q.3 1	India honoured the Pravasi Bharatiya Samman Award to the President of _____ in 2025.
Ans	<input checked="" type="checkbox"/> 1. Canada
	<input checked="" type="checkbox"/> 2. Malaysia
	<input checked="" type="checkbox"/> 3. Singapore
	<input checked="" type="checkbox"/> 4. Trinidad and Tobago

Question ID :	441009108933
Option 1 ID :	441009433548
Option 2 ID :	441009433549
Option 3 ID :	441009433550
Option 4 ID :	441009433547
Status :	Answered
Chosen Option :	4

Q.3 2	Which of the following launched the 'Fiscal Health Index 2025' in January 2025?
Ans	<input checked="" type="checkbox"/> 1. NITI Aayog
	<input checked="" type="checkbox"/> 2. National Health Authority (NHA)
	<input checked="" type="checkbox"/> 3. Reserve Bank of India
	<input checked="" type="checkbox"/> 4. Indian Council of Medical Research (ICMR)

Question ID :	441009117044
Option 1 ID :	441009465310
Option 2 ID :	441009465312
Option 3 ID :	441009465313
Option 4 ID :	441009465311
Status :	Answered
Chosen Option :	1

Q.3 3	Harike wetland ecosystem DOES NOT stretch across which districts of Punjab?
Ans	<input checked="" type="checkbox"/> 1. Ferozepur
	<input checked="" type="checkbox"/> 2. Amritsar
	<input checked="" type="checkbox"/> 3. Ludhiana
	<input checked="" type="checkbox"/> 4. Kapurthala

Question ID :	44100986469
Option 1 ID :	441009343566
Option 2 ID :	441009343564
Option 3 ID :	441009343567
Option 4 ID :	441009343565
Status :	Answered
Chosen Option :	1

**Q.3**  
**4** According to the Indian Constitution, who among the following primarily decides laws and policies in most instances?

- Ans**
- 1. The President of India
  - 2. The Parliament
  - 3. The Election Commission
  - 4. The Supreme Court

Question ID :	441009123385
Option 1 ID :	441009490441
Option 2 ID :	441009490442
Option 3 ID :	441009490443
Option 4 ID :	441009490440
Status :	Answered
Chosen Option :	4

**Q.3**  
**5** What is the reason behind the golden colour of the tiger spotted in Kaziranga in April 2025?

- Ans**
- 1. Environmental factors
  - 2. Genetic mutation called pseudomelanism
  - 3. Cross-breeding with snow leopards
  - 4. A distinct species

Question ID :	441009102887
Option 1 ID :	441009409560
Option 2 ID :	441009409558
Option 3 ID :	441009409559
Option 4 ID :	441009409557
Status :	Answered
Chosen Option :	3

Section : Quantitative Aptitude and Numerical Skills



Q.3 6	Find the value of $\left[ \left(\frac{5}{6}\right)^{-8} \times \left(\frac{6}{5}\right)^{-5} \times \left(\frac{1}{2}\right)^{-3} \right]^{-9}$ .
Ans	✗ 1. $\left(\frac{5}{22}\right)^{27}$
	✗ 2. $\left(\frac{12}{5}\right)^{29}$
	✗ 3. $\left(\frac{7}{12}\right)^{26}$
	✓ 4. $\left(\frac{5}{12}\right)^{27}$

Question ID :	441009194296
Option 1 ID :	441009765132
Option 2 ID :	441009765133
Option 3 ID :	441009765134
Option 4 ID :	441009765131
Status :	Answered
Chosen Option :	4

Q.3 7	A merchant has 2158 kg of sugar. He sells a part of it at 10% profit and the remaining quantity at 36% profit. If his overall gain is 25%, how much sugar (in kg) was sold at 36% profit?
Ans	✗ 1. 1249
	✗ 2. 1248
	✓ 3. 1245
	✗ 4. 1235

Question ID :	441009191382
Option 1 ID :	441009754331
Option 2 ID :	441009754330
Option 3 ID :	441009754328
Option 4 ID :	441009754329
Status :	Answered
Chosen Option :	3

**Q.3** Laveena and Raveena can paint a house in 20 days and 30 days, respectively. If they work on alternate days, starting with Raveena, in how many days can the duo complete painting that house?

- Ans**
- 1. 20 days
  - 2. 22 days
  - 3. 26 days
  - 4. 24 days

Question ID :	441009194142
Option 1 ID :	441009764516
Option 2 ID :	441009764517
Option 3 ID :	441009764518
Option 4 ID :	441009764515
Status :	Answered
Chosen Option :	1

**Q.3** Ashish borrowed a sum of ₹30,000 at a certain rate of simple interest for 2 years. If he paid an interest of ₹4,000 at the end of the period at x% per annum rate of interest, the value of x (rounded off to two decimal place) is:

- Ans**
- 1. 8.67
  - 2. 6.67
  - 3. 7.67
  - 4. 5.67

Question ID :	441009194565
Option 1 ID :	441009766209
Option 2 ID :	441009766207
Option 3 ID :	441009766208
Option 4 ID :	441009766210
Status :	Answered
Chosen Option :	2

**Q.4** A shopkeeper sells an item for ₹527.8 after giving two successive discounts of 74% and 90% on its marked price. Had he not given any discount, he would have earned a profit of 40%. What is the cost price (in ₹) of the item?

- Ans**
- 1. 14,451
  - 2. 14,506
  - 3. 14,500
  - 4. 14,548

Question ID :	441009194085
Option 1 ID :	441009764290
Option 2 ID :	441009764288
Option 3 ID :	441009764287
Option 4 ID :	441009764289
Status :	Answered
Chosen Option :	4

Q.4  
1 The average price of three items of furniture is ₹5,425. If their prices are in the ratio 3 : 5 : 7, the price of the costliest item (in ₹) is \_\_\_\_\_.

Ans  1. 7,595

2. 1,085

3. 5,425

4. 3,255

Question ID : 441009194656

Option 1 ID : 441009766571

Option 2 ID : 441009766572

Option 3 ID : 441009766574

Option 4 ID : 441009766573

Status : Answered

Chosen Option : 2

Q.4  
2 Find the gain percentage, given that Siddhi sold her scooter for ₹86,400.

Ans  1. 40%

2. 25%

3. 20%

4. 5%

Question ID : 441009194184

Option 1 ID : 441009764685

Option 2 ID : 441009764683

Option 3 ID : 441009764684

Option 4 ID : 441009764686

Status : Answered

Chosen Option : 3

Q.4  
3 Two pipes A and B can fill a tank in 21 minutes and 13 minutes, respectively. Both the pipes are opened together but after 5 minutes, pipe A is turned off. What is the total time required to fill the tank?

Ans

✗ 1.  $\frac{99}{21}$  minutes

✓ 2.  $\frac{103}{21}$  minutes

✗ 3.  $\frac{107}{21}$  minutes

✗ 4.  $\frac{98}{21}$  minutes

Question ID : 441009191205

Option 1 ID : 441009753621

Option 2 ID : 441009753620

Option 3 ID : 441009753623

Option 4 ID : 441009753622

Status : Answered

Chosen Option : 4

Q.4  
4 If 675 apples were distributed among Kavita, Rakesh and Shalini in the ratio  $\frac{1}{7} : \frac{1}{2} :$

Ans

✓ 1. 189

✗ 2. 209

✗ 3. 179

✗ 4. 169

Question ID : 441009191488

Option 1 ID : 441009754752

Option 2 ID : 441009754755

Option 3 ID : 441009754753

Option 4 ID : 441009754754

Status : Answered

Chosen Option : 4

Q.4 The price of fuel decreases by 40%, 30% and 30% in three successive months, but  
5 increases by 55% in the fourth month. What is the percentage increase/decrease in the price of fuel in the fourth month as compared to its original price?

- Ans
- 1. Decreases by 54.43%
  - 2. Decreases by 59.39%
  - 3. Increases by 56.97%
  - 4. Increases by 55.47%

Question ID :	441009194242
Option 1 ID :	441009764915
Option 2 ID :	441009764917
Option 3 ID :	441009764916
Option 4 ID :	441009764918
Status :	Answered
Chosen Option :	4

Q.4 Simplify the following.  
6

$$24 - [3 - \{7 - (2 + 7)\}]$$

- Ans
- 1. 19
  - 2. 23
  - 3. 26
  - 4. 16

Question ID :	441009194425
Option 1 ID :	441009765647
Option 2 ID :	441009765649
Option 3 ID :	441009765650
Option 4 ID :	441009765648
Status :	Answered
Chosen Option :	1

Q.4 Vijay purchased 10 kg of rice at the rate of ₹37 per kg and 31 kg of rice at ₹44 per kg. He  
7 sold the whole mixture at the rate of ₹42 per kg. Find his loss (in ₹).

- Ans
- 1. 12
  - 2. 20
  - 3. 7
  - 4. 17

Question ID :	441009191016
Option 1 ID :	441009752864
Option 2 ID :	441009752867
Option 3 ID :	441009752866
Option 4 ID :	441009752865
Status :	Answered
Chosen Option :	1

Q.4 8	A batsman in his 13 <sup>th</sup> inning makes a score of 87 runs, thereby increasing his average by 1 run. What is his average (in runs) after the 13 <sup>th</sup> inning?
Ans	✓ 1. 75
	✗ 2. 87
	✗ 3. 78
	✗ 4. 90

Question ID :	441009191336
Option 1 ID :	441009754144
Option 2 ID :	441009754146
Option 3 ID :	441009754145
Option 4 ID :	441009754147
Status :	Answered
Chosen Option :	1

Q.4 9	Evaluate $0.\overline{158} \times 0.\overline{15}$
Ans	✓ 1. $\frac{790}{32967}$
	✗ 2. $\frac{788}{65934}$
	✗ 3. $\frac{800}{32967}$
	✗ 4. $\frac{1580}{32977}$

Question ID :	441009194276
Option 1 ID :	441009765051
Option 2 ID :	441009765052
Option 3 ID :	441009765053
Option 4 ID :	441009765054
Status :	Answered
Chosen Option :	1

**Q.5** Three partners invested in a business in the ratio 9 : 1 : 7. They invested their capitals for 2 months, 6 months and 11 months, respectively. What was the ratio of their profits?

0 **Ans**  1. 17 : 6 : 77

2. 15 : 6 : 77

3. 18 : 6 : 77

4. 20 : 6 : 77

Question ID : 441009194036

Option 1 ID : 441009764092

Option 2 ID : 441009764094

Option 3 ID : 441009764091

Option 4 ID : 441009764093

Status : Answered

Chosen Option : 3

**Q.5** A clothing store offers a 20% discount on a jacket. On top of that, an additional 10% discount is applied to the already discounted price. If the marked price of the jacket is ₹5,000, what is the final selling price?

1 **Ans**  1. ₹3,800

2. ₹3,600

3. ₹4,000

4. ₹3,400

Question ID : 441009133643

Option 1 ID : 441009531297

Option 2 ID : 441009531296

Option 3 ID : 441009531298

Option 4 ID : 441009531295

Status : Answered

Chosen Option : 2

**Q.5** In a test, B got 58 marks while A got 80 marks, out of 100 maximum marks. What percentage of A's marks was B's marks?

2 **Ans**  1. 137.93%

2. 80%

3. 72.5%

4. 100%

Question ID : 441009191084

Option 1 ID : 441009753137

Option 2 ID : 441009753139

Option 3 ID : 441009753136

Option 4 ID : 441009753138

Status : Answered

Chosen Option : 1

**Comprehension:**

Read the given information and answer the questions that follow.

A jeweller mixes two types of beads, crystal and pearl, to create a necklace design. The ratio of crystal beads to pearl beads is 5 : 3. The total number of beads used in one necklace is 320. The crystal beads cost ₹15 each and pearl beads cost ₹25 each.

**SubQuestion No : 53****Q.5 How many crystal beads are used in one necklace?**

3

Ans  1. 180 2. 200 3. 190 4. 220

Question ID : 441009135293

Option 1 ID : 441009537756

Option 2 ID : 441009537757

Option 3 ID : 441009537759

Option 4 ID : 441009537758

Status : Answered

Chosen Option : 2

**Comprehension:**

Read the given information and answer the questions that follow.

A jeweller mixes two types of beads, crystal and pearl, to create a necklace design. The ratio of crystal beads to pearl beads is 5 : 3. The total number of beads used in one necklace is 320. The crystal beads cost ₹15 each and pearl beads cost ₹25 each.

**SubQuestion No : 54****Q.5 What is the total cost of the pearl beads in one necklace?**

4

Ans  1. ₹3,000 2. ₹3,200 3. ₹2,800 4. ₹2,500

Question ID : 441009135294

Option 1 ID : 441009537762

Option 2 ID : 441009537761

Option 3 ID : 441009537760

Option 4 ID : 441009537763

Status : Answered

Chosen Option : 1

**Comprehension:**

Read the given information and answer the questions that follow.

A jeweller mixes two types of beads, crystal and pearl, to create a necklace design. The ratio of crystal beads to pearl beads is 5 : 3. The total number of beads used in one necklace is 320. The crystal beads cost ₹15 each and pearl beads cost ₹25 each.

**SubQuestion No : 55**

**Q.5** If the jeweller increases the total beads to 400 while maintaining the same ratio, how many additional crystal beads are needed?

Ans  1. 50

2. 70

3. 60

4. 40

Question ID : 441009135295

Option 1 ID : 441009537767

Option 2 ID : 441009537766

Option 3 ID : 441009537765

Option 4 ID : 441009537764

Status : Answered

Chosen Option : 1

## Section : Mental Ability &amp; Logical Reasoning

**Comprehension:**

In a spelling competition, Priya ranks 10<sup>th</sup> from the top and Samir ranks 14<sup>th</sup> from the bottom. There are 28 participants.

**SubQuestion No : 56**

**Q.5** How many participants are ranked between Priya and Samir?

Ans  1. 3

2. 1

3. 2

4. 4

Question ID : 44100977329

Option 1 ID : 441009307314

Option 2 ID : 441009307312

Option 3 ID : 441009307313

Option 4 ID : 441009307315

Status : Answered

Chosen Option : 4

<b>Comprehension:</b>	
In a spelling competition, Priya ranks 10 <sup>th</sup> from the top and Samir ranks 14 <sup>th</sup> from the bottom. There are 28 participants.	
<b>SubQuestion No : 57</b>	
<b>Q.5</b>	<b>What is Samir's rank from the top?</b>
<b>7</b>	
<b>Ans</b>	<input checked="" type="checkbox"/> 1. 18 <sup>th</sup>
	<input checked="" type="checkbox"/> 2. 15 <sup>th</sup>
	<input checked="" type="checkbox"/> 3. 19 <sup>th</sup>
	<input checked="" type="checkbox"/> 4. 20 <sup>th</sup>

Question ID :	44100977328
Option 1 ID :	441009307309
Option 2 ID :	441009307308
Option 3 ID :	441009307310
Option 4 ID :	441009307311
Status :	Answered
Chosen Option :	2

<b>Comprehension:</b>	
Read the given information and answer the questions that follow.	
Each of V, W, X, Y and Z has an exam on a different day of a week starting from Monday and ending on Friday of the same week. Z has the exam on Thursday. Only one person has the exam between Z and V. Y has the exam immediately after Z. W has the exam before V.	
<b>SubQuestion No : 58</b>	
<b>Q.5</b>	<b>How many people have exams before V?</b>
<b>8</b>	
<b>Ans</b>	<input checked="" type="checkbox"/> 1. Two
	<input checked="" type="checkbox"/> 2. One
	<input checked="" type="checkbox"/> 3. Three
	<input checked="" type="checkbox"/> 4. Four

Question ID :	44100974411
Option 1 ID :	441009295951
Option 2 ID :	441009295950
Option 3 ID :	441009295952
Option 4 ID :	441009295953
Status :	Answered
Chosen Option :	2

**Comprehension:**

Read the given information and answer the questions that follow.

Each of V, W, X, Y and Z has an exam on a different day of a week starting from Monday and ending on Friday of the same week.  
Z has the exam on Thursday. Only one person has the exam between Z and V. Y has the exam immediately after Z. W has the exam before V.

**SubQuestion No : 59**

**Q.5 On which day does X have the exam?**

9

**Ans**  1. Tuesday  
 2. Friday  
 3. Monday  
 4. Wednesday

Question ID :	44100974410
Option 1 ID :	441009295949
Option 2 ID :	441009295948
Option 3 ID :	441009295947
Option 4 ID :	441009295946
Status :	Answered
Chosen Option :	4

**Comprehension:**

Read the given information and answer the questions that follow.

Each of V, W, X, Y and Z has an exam on a different day of a week starting from Monday and ending on Friday of the same week.  
Z has the exam on Thursday. Only one person has the exam between Z and V. Y has the exam immediately after Z. W has the exam before V.

**SubQuestion No : 60**

**Q.6 How many people have exams between V and Z?**

0

**Ans**  1. Three  
 2. Four  
 3. One  
 4. Two

Question ID :	44100974412
Option 1 ID :	441009295956
Option 2 ID :	441009295957
Option 3 ID :	441009295954
Option 4 ID :	441009295955
Status :	Answered
Chosen Option :	3

<b>Comprehension:</b>	
Mr. T starts from Point A and drives 14 km towards east. He then takes a left turn, drives 9 km, turns left and drives 21 km. He then takes a left turn and drives 15 km. He takes a final left turn, drives 7 km and stops at Point P. (All turns are 90 degrees turns only unless specified)	
<b>SubQuestion No : 61</b>	
<b>Q.6</b>	<b>How far (shortest distance) should he drive in order to reach Point A again?</b>
<b>1</b>	
<b>Ans</b>	✓ 1. 6 km
	✗ 2. 14 km
	✗ 3. 15 km
	✗ 4. 7 km

Question ID :	44100981244
Option 1 ID :	441009322558
Option 2 ID :	441009322560
Option 3 ID :	441009322561
Option 4 ID :	441009322559
Status :	Answered
Chosen Option :	1

<b>Comprehension:</b>	
Mr. T starts from Point A and drives 14 km towards east. He then takes a left turn, drives 9 km, turns left and drives 21 km. He then takes a left turn and drives 15 km. He takes a final left turn, drives 7 km and stops at Point P. (All turns are 90 degrees turns only unless specified)	
<b>SubQuestion No : 62</b>	
<b>Q.6</b>	<b>Towards which direction should he drive in order to reach Point A again from Point P?</b>
<b>2</b>	
<b>Ans</b>	✗ 1. West
	✗ 2. South
	✓ 3. North
	✗ 4. East

Question ID :	44100981245
Option 1 ID :	441009322564
Option 2 ID :	441009322563
Option 3 ID :	441009322565
Option 4 ID :	441009322562
Status :	Answered
Chosen Option :	1

**Q.6** Refer to the following letter and symbol series and answer the question that follows.  
3 Counting to be done from left to right only.

(Left) A W E R @ # Y U \* & J G @ N ^ (Right)

Which of the following letter/symbols is fifth from the left in the given series?

Ans  1. \*

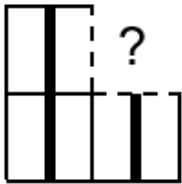
2. R

3. @

4. &

Question ID :	44100987720
Option 1 ID :	441009348761
Option 2 ID :	441009348762
Option 3 ID :	441009348759
Option 4 ID :	441009348760
Status :	Answered
Chosen Option :	3

**Q.6** Select the option figure that will replace the question mark (?) in the figure given below  
4 to complete the pattern.



Ans

1.



2.



3.



4.



Question ID :	63068091466
Option 1 ID :	441009371181
Option 2 ID :	441009371184
Option 3 ID :	441009371182
Option 4 ID :	441009371183
Status :	Answered
Chosen Option :	2

<b>Q.6</b>	<b>Q is father of S. T is son of R. R is sister of Q.</b>
<b>5</b>	<b>How is Q related to T?</b>
<b>Ans</b>	<input checked="" type="checkbox"/> 1. Brother
	<input checked="" type="checkbox"/> 2. Mother's brother
	<input checked="" type="checkbox"/> 3. Father's brother
	<input checked="" type="checkbox"/> 4. Father

Question ID :	44100987432
Option 1 ID :	441009347599
Option 2 ID :	441009347601
Option 3 ID :	441009347602
Option 4 ID :	441009347600
Status :	Answered
Chosen Option :	2

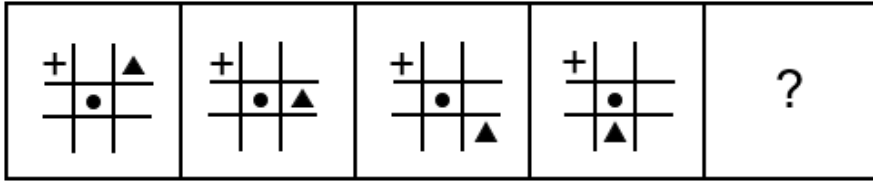
<b>Q.6</b>	<b>Select the number from among the given options that can replace the question mark (?) in the following series.</b>
<b>6</b>	<b>46 52 60 70 82 96 ?</b>
<b>Ans</b>	<input checked="" type="checkbox"/> 1. 120
	<input checked="" type="checkbox"/> 2. 112
	<input checked="" type="checkbox"/> 3. 110
	<input checked="" type="checkbox"/> 4. 116

Question ID :	44100987381
Option 1 ID :	441009347366
Option 2 ID :	441009347363
Option 3 ID :	441009347364
Option 4 ID :	441009347365
Status :	Answered
Chosen Option :	2

<b>Q.6</b>	<b>Refer to the following series and answer the question (all numbers are single digit numbers only).</b>
<b>7</b>	<b>(Left) 9 6 2 5 6 4 6 1 6 7 3 4 3 7 3 3 6 9 1 8 2 6 7 (Right)</b>
	<b>How many 2's are there in the given series?</b>
<b>Ans</b>	<input checked="" type="checkbox"/> 1. Two
	<input checked="" type="checkbox"/> 2. One
	<input checked="" type="checkbox"/> 3. None
	<input checked="" type="checkbox"/> 4. Three

Question ID :	44100988632
Option 1 ID :	441009352533
Option 2 ID :	441009352532
Option 3 ID :	441009352531
Option 4 ID :	441009352534
Status :	Answered
Chosen Option :	1

Q.6 Identify the figure given in the options which when put in place of the question mark (?) will logically complete the series.

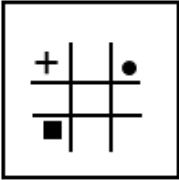


Ans

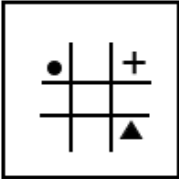
✗ 1.



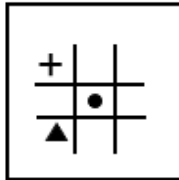
✗ 2.



✗ 3.



✓ 4.



Question ID :	63068091407
Option 1 ID :	441009390448
Option 2 ID :	441009390446
Option 3 ID :	441009390445
Option 4 ID :	441009390447
Status :	Answered
Chosen Option :	4

**Q.6** Read the given statements and conclusions carefully. Assuming that the information given in the statements is true, even if it appears to be at variance with commonly known facts, decide which of the given conclusions logically follow(s) from the statements.

**Statements:**  
All bulbs are desks.  
All desks are clocks.

**Conclusions:**  
(I): All desks are bulbs.  
(II): All bulbs are clocks.

- Ans**
- 1. Neither conclusion follows
  - 2. Only conclusion II follows
  - 3. Both conclusions follow
  - 4. Only conclusion I follows

Question ID :	44100982826
Option 1 ID :	441009329070
Option 2 ID :	441009329067
Option 3 ID :	441009329069
Option 4 ID :	441009329068
Status :	Answered
Chosen Option :	2

**Q.7** Refer to the following letter series and answer the question.  
0 (Left) H G F X Z O U K T B Y M R E S I C W A Q D (Right)  
Which letter is sixth from the right in the given series?

- Ans**
- 1. I
  - 2. X
  - 3. C
  - 4. F

Question ID :	44100987956
Option 1 ID :	441009349757
Option 2 ID :	441009349759
Option 3 ID :	441009349760
Option 4 ID :	441009349758
Status :	Answered
Chosen Option :	1

**Q.7** Which of the following letter-clusters should replace # and % so that the pattern and relationship followed between the letter-cluster pair on the left side of :: is the same as that on the right side of :: ?  
# : RA :: TL : %

- Ans**
- 1. # = QB, % = UM
  - 2. # = SB, % = SK
  - 3. # = QB, % = SK
  - 4. # = SB, % = UM

Question ID :	441009100439
Option 1 ID :	441009399730
Option 2 ID :	441009399732
Option 3 ID :	441009399731
Option 4 ID :	441009399733
Status :	Answered
Chosen Option :	4

**Q.7** Two sets of numbers are given below. In each set of numbers, certain mathematical operation(s) on the first number result(s) in the second number. Similarly, certain mathematical operation(s) on the second number result(s) in the third number and so on. Which of the given options follows the same set of operations as in the given sets? (NOTE: Operations should be performed on the whole numbers, without breaking down the numbers into their constituent digits. E.g. 13 – Operations on 13 such as adding/subtracting/multiplying to 13 can be performed. Breaking down 13 into 1 and 3 and then performing mathematical operations on 1 and 3 is not allowed.)  
84 – 21 – 7 ; 48 – 12 – 4

- Ans**
- 1. 24 – 6 – 2
  - 2. 100 – 25 – 5
  - 3. 27 – 3 – 1
  - 4. 64 – 18 – 6

Question ID :	44100988356
Option 1 ID :	441009351473
Option 2 ID :	441009351472
Option 3 ID :	441009351471
Option 4 ID :	441009351474
Status :	Answered
Chosen Option :	1

<b>Q.7</b>	<b>What should come in place of the question mark (?) in the given series?</b>
<b>3</b>	
	17.6 21.5 20.1 24 22.6 26.5 25.1 ?
<b>Ans</b>	<input checked="" type="checkbox"/> 1. 28
	<input checked="" type="checkbox"/> 2. 29
	<input checked="" type="checkbox"/> 3. 30
	<input checked="" type="checkbox"/> 4. 32

Question ID :	441009109106
Option 1 ID :	441009434243
Option 2 ID :	441009434242
Option 3 ID :	441009434244
Option 4 ID :	441009434245
Status :	Answered
Chosen Option :	2

<b>Q.7</b>	<b>Which of the following options should come in place of the question mark (?) in the given series based on the English alphabetical order?</b>
<b>4</b>	
	I 17 G 13 E 9 C 5 ?
<b>Ans</b>	<input checked="" type="checkbox"/> 1. A 1
	<input checked="" type="checkbox"/> 2. B 3
	<input checked="" type="checkbox"/> 3. B 1
	<input checked="" type="checkbox"/> 4. A 3

Question ID :	44100988751
Option 1 ID :	441009353006
Option 2 ID :	441009353003
Option 3 ID :	441009353004
Option 4 ID :	441009353005
Status :	Answered
Chosen Option :	1

<b>Q.7</b>	<b>A is the mother of C. C is the sister of D. D is the mother of P. How is A related to P?</b>
<b>5</b>	
<b>Ans</b>	<input checked="" type="checkbox"/> 1. Sister
	<input checked="" type="checkbox"/> 2. Mother
	<input checked="" type="checkbox"/> 3. Father
	<input checked="" type="checkbox"/> 4. Mother's mother

Question ID :	44100982871
Option 1 ID :	441009329250
Option 2 ID :	441009329248
Option 3 ID :	441009329249
Option 4 ID :	441009329247
Status :	Answered
Chosen Option :	4

Section : English Language Skills and Punjabi Language Skills

Q.7  
6 Spitting is prohibited on the platform.' ਪੰਜਾਬੀ ਅਨੁਵਾਦ ਦੀ ਚੋਣ ਕਰੋ।

Ans ✓ 1. ਪਲੇਟਫਾਰਮ 'ਤੇ ਬੁੱਕਣਾ ਮੰਨ੍ਹਾ ਹੈ।

✗ 2. ਪਲੇਟਫਾਰਮ 'ਤੇ ਬੁੱਕਣਾ ਸਜ਼ਾਯੋਗ ਹੈ।

✗ 3. ਪਲੇਟਫਾਰਮ 'ਤੇ ਨਾ ਬੁੱਕੋ।

✗ 4. ਪਲੇਟਫਾਰਮ 'ਤੇ ਬੁੱਕਣਾ ਮੁਸ਼ਕਲ ਹੈ।

Question ID : 441009303647

Option 1 ID : 4410091181217

Option 2 ID : 4410091181219

Option 3 ID : 4410091181218

Option 4 ID : 4410091181220

Status : Answered

Chosen Option : 1

Q.7  
7 Select the correct spelling of the underlined incorrectly spelt word in the given sentence.

The window display featured a sleek mennaquin dressed in the latest fashion, drawing the attention of passersby.

Ans ✓ 1. mannequin

✗ 2. manequine

✗ 3. menniquin

✗ 4. maniquine

Question ID : 441009113670

Option 1 ID : 441009452173

Option 2 ID : 441009452172

Option 3 ID : 441009452170

Option 4 ID : 441009452171

Status : Answered

Chosen Option : 2

Q.7  
8 Select the most appropriate option that can substitute the underlined segment in the given sentence.

In general, people who enjoy both social interactions and solitary work are likely to thrive in careers that involve a balance of collaboration and time spent working independently, such as sales, project management, interior design and teaching.

Ans ✓ 1. ambiverts

✗ 2. introverts

✗ 3. loners

✗ 4. extroverts

Question ID : 441009112982

Option 1 ID : 441009449494

Option 2 ID : 441009449492

Option 3 ID : 441009449493

Option 4 ID : 441009449491

Status : Answered

Chosen Option : 4

**Q.7**  
9 **Select the most appropriate option to fill in the blank.**  
Mira had a knack for Finance, \_\_\_\_\_, her interest lay in Psychology.

**Ans**  1. therefore  
 2. whereas  
 3. similarly  
 4. hence

Question ID :	441009101730
Option 1 ID :	441009404937
Option 2 ID :	441009404935
Option 3 ID :	441009404936
Option 4 ID :	441009404938
Status :	Answered
Chosen Option :	1

**Q.8**  
0 **Select the most appropriate ANTONYM of the given word.**  
Diligent

**Ans**  1. Lazy  
 2. Enthusiastic  
 3. Hardworking  
 4. Active

Question ID :	441009105662
Option 1 ID :	441009420779
Option 2 ID :	441009420780
Option 3 ID :	441009420782
Option 4 ID :	441009420781
Status :	Answered
Chosen Option :	3

**Q.8**  
1 ਪੰਜਾਬੀ ਵਿੱਚ ਦਿੱਤੇ ਗਏ ਵਾਕ ਦਾ ਅੰਗਰੇਜ਼ੀ ਵਿੱਚ ਅਨੁਵਾਦ ਕਰੋ।  
ਕੁਝ ਵਿਦਿਆਰਥੀ ਫੇਕੀ ਹਉਮੈਂ ਦਾ ਸ਼ਿਕਾਰ ਹੋ ਕੇ ਅਨੁਸ਼ਾਸਨ ਨੂੰ ਗ਼ੁਲਾਮੀ ਸਮਝਦੇ ਹਨ।

**Ans**  1. Some students, falling victim to a false ego, begin to consider discipline as a slavery.  
 2. Few students, thinking to negative ego, thinking discipline as a burden.  
 3. Few students, trapping themselves to false ego, begin to consider discipline as burden.  
 4. Some students, getting into ego, begin to consider discipline as slavery.

Question ID :	441009309050
Option 1 ID :	4410091202854
Option 2 ID :	4410091202852
Option 3 ID :	4410091202853
Option 4 ID :	4410091202851
Status :	Answered
Chosen Option :	4

**Q.8** Sentences of a paragraph are given below in jumbled order. Arrange the sentences in the correct order to form a meaningful and coherent paragraph.

- A. She opened the book and began reading the first chapter.
- B. The characters in the story were interesting and unique.
- C. It was a quiet afternoon, perfect for reading.
- D. After a while, she got so absorbed in the book that she lost track of time.
- E. The book she had been waiting to read for weeks had finally arrived.

- Ans
- 1. DABCE
  - 2. ECABD
  - 3. CABDE
  - 4. ABCDE

Question ID :	441009109021
Option 1 ID :	441009433904
Option 2 ID :	441009433902
Option 3 ID :	441009433905
Option 4 ID :	441009433903
Status :	Answered
Chosen Option :	2

**Comprehension:**

Read the given passage and answer the questions that follow.  
 Durgabai Deshmukh's dedication to social service and women's empowerment led to the creation of the Andhra Mahila Sabha, a voluntary organisation that played a crucial role in improving the lives of women in India. Inspired by her experiences with marginalised and destitute women, she believed that women could only achieve true independence with access to education, legal support and social services.  
 The Sabha began as a small initiative but quickly grew into a major institution. One of her earliest efforts was launching an adult literacy programme to help widowed and abandoned women complete their high school education and regain their confidence. She also worked to provide legal aid to women who could not afford representation and advocated for their rights in public forums. Under her leadership, the Sabha addressed a wide range of issues including healthcare, disability support, rehabilitation and vocational training. Durgabai remained deeply involved with the organisation, guiding its vision and expansion. Through her tireless commitment, she not only transformed countless lives but also laid the foundation for future social work in India. Her work with the Andhra Mahila Sabha earned her the title 'mother of social work', a recognition of her enduring impact on the nation's social landscape.

SubQuestion No : 83

**Q.8** Which of the following initiatives did Durgabai launch through Andhra Mahila Sabha?

- 3
- Ans
- 1. A job placement centre for young women
  - 2. A vocational training centre for men
  - 3. A literacy programme for widowed and abandoned women
  - 4. A hospital for sick women

Question ID :	441009173455
Option 1 ID :	441009686318
Option 2 ID :	441009686316
Option 3 ID :	441009686319
Option 4 ID :	441009686317
Status :	Answered
Chosen Option :	3

**Comprehension:**

Read the given passage and answer the questions that follow.

Durgabai Deshmukh's dedication to social service and women's empowerment led to the creation of the Andhra Mahila Sabha, a voluntary organisation that played a crucial role in improving the lives of women in India. Inspired by her experiences with marginalised and destitute women, she believed that women could only achieve true independence with access to education, legal support and social services.

The Sabha began as a small initiative but quickly grew into a major institution. One of her earliest efforts was launching an adult literacy programme to help widowed and abandoned women complete their high school education and regain their confidence. She also worked to provide legal aid to women who could not afford representation and advocated for their rights in public forums. Under her leadership, the Sabha addressed a wide range of issues including healthcare, disability support, rehabilitation and vocational training. Durgabai remained deeply involved with the organisation, guiding its vision and expansion. Through her tireless commitment, she not only transformed countless lives but also laid the foundation for future social work in India. Her work with the Andhra Mahila Sabha earned her the title 'mother of social work', a recognition of her enduring impact on the nation's social landscape.

**SubQuestion No : 84**

**Q.8** Based on the passage, what was Durgabai's view on the path to women's true independence?  
4

- Ans**
- 1. It depended on their participation in the freedom movement.
  - 2. It was through marriage and family support.
  - 3. It could only be achieved through political representation.
  - 4. It required access to education, legal support and social services.

Question ID :	441009173457
Option 1 ID :	441009686326
Option 2 ID :	441009686327
Option 3 ID :	441009686324
Option 4 ID :	441009686325
Status :	Answered
Chosen Option :	4

**Comprehension:**

Read the given passage and answer the questions that follow.

Durgabai Deshmukh's dedication to social service and women's empowerment led to the creation of the Andhra Mahila Sabha, a voluntary organisation that played a crucial role in improving the lives of women in India. Inspired by her experiences with marginalised and destitute women, she believed that women could only achieve true independence with access to education, legal support and social services.

The Sabha began as a small initiative but quickly grew into a major institution. One of her earliest efforts was launching an adult literacy programme to help widowed and abandoned women complete their high school education and regain their confidence. She also worked to provide legal aid to women who could not afford representation and advocated for their rights in public forums. Under her leadership, the Sabha addressed a wide range of issues including healthcare, disability support, rehabilitation and vocational training. Durgabai remained deeply involved with the organisation, guiding its vision and expansion. Through her tireless commitment, she not only transformed countless lives but also laid the foundation for future social work in India. Her work with the Andhra Mahila Sabha earned her the title 'mother of social work', a recognition of her enduring impact on the nation's social landscape.

**SubQuestion No : 85**

**Q.8** What title did Durgabai earn for her work with the Andhra Mahila Sabha?  
5

- Ans**
- ✓ 1. Mother of Social Work
  - ✗ 2. Champion of Women's Rights
  - ✗ 3. Educator of the Marginalised
  - ✗ 4. Defender of Women's Justice

Question ID : 441009173456

Option 1 ID : 441009686320

Option 2 ID : 441009686321

Option 3 ID : 441009686322

Option 4 ID : 441009686323

Status : Answered

Chosen Option : 1

**Q.8** "off and on" ਵਾਕਾਂਸ਼ ਦਾ ਸਹੀ ਅਨੁਵਾਦ ਕੀ ਹੈ?  
6

- Ans**
- ✓ 1. ਖਾਸ ਮੌਕੇ 'ਤੇ
  - ✗ 2. ਨਿਸ਼ਚਿਤ ਸਮੇਂ 'ਤੇ
  - ✗ 3. ਨਿਯਮਿਤ ਤੌਰ 'ਤੇ
  - ✗ 4. ਕਦੇ ਵੀ

Question ID : 441009303734

Option 1 ID : 4410091181540

Option 2 ID : 4410091181541

Option 3 ID : 4410091181542

Option 4 ID : 4410091181543

Status : Answered

Chosen Option : 3

Q.8 ਸੁੱਧ ਸ਼ਬਦ ਦੀ ਪਛਾਣ ਕਰੋ:

- Ans
- 1. ਰੇਲਾ
  - 2. ਫੈਲ
  - 3. ਬੋਲ
  - 4. ਸ਼ੌਰ

Question ID : 441009288586

Option 1 ID : 4410091121336

Option 2 ID : 4410091121337

Option 3 ID : 4410091121335

Option 4 ID : 4410091121334

Status : Answered

Chosen Option : 4

Q.8 ਕਿਹੜਾ ਇੱਕ ਵਿਕਲਪ ਬਾਕੀ ਸ਼ਬਦਾਂ ਦਾ ਸਮਾਨਾਰਥੀ ਨਹੀਂ ਹੈ?

- Ans
- 1. ਮਾਲਕ
  - 2. ਚੇਤੰਨ
  - 3. ਸੁਜਾਨ
  - 4. ਸੁਖੜ

Question ID : 441009291584

Option 1 ID : 4410091133177

Option 2 ID : 4410091133176

Option 3 ID : 4410091133175

Option 4 ID : 4410091133174

Status : Answered

Chosen Option : 4

Q.8 ਹੇਠ ਲਿਖਿਆਂ ਵਿੱਚੋਂ ਸੁੱਧ ਸ਼ਬਦ ਚੁਣੋ

- Ans
- 1. ਅੰਨ
  - 2. ਅੰਨ
  - 3. ਅਨਨ
  - 4. ਅਨ

Question ID : 441009298602

Option 1 ID : 4410091161460

Option 2 ID : 4410091161459

Option 3 ID : 4410091161461

Option 4 ID : 4410091161458

Status : Answered

Chosen Option : 1

Q.9  
0 ਹੇਠਾਂ ਦਿੱਤੇ ਵਿੱਚੋਂ ਕਿਹੜਾ ਦਿਨ 'ਸੋਮਵਾਰ' ਤੋਂ ਪਹਿਲਾਂ ਆਉਂਦਾ ਹੈ?

Ans  1. ਮੰਗਲਵਾਰ

2. ਐਤਵਾਰ

3. ਬੁੱਧਵਾਰ

4. ਸ਼ਨਿੱਚਰਵਾਰ

Question ID : 441009288223

Option 1 ID : 4410091119792

Option 2 ID : 4410091119793

Option 3 ID : 4410091119794

Option 4 ID : 4410091119791

Status : Answered

Chosen Option : 2

Q.9  
1 ਹਫ਼ਤੇ ਦਾ ਤੀਸਰਾ ਦਿਨ ਕਿਹੜਾ ਹੈ? (ਨਾਨਕਸ਼ਾਹੀ ਕੈਲੰਡਰ ਅਨੁਸਾਰ)

Ans  1. ਵੀਰਵਾਰ

2. ਮੰਗਲਵਾਰ

3. ਮੰਗਲਵਾਰ

4. ਵਿਰਾਵਾਰ

Question ID : 441009308540

Option 1 ID : 4410091200814

Option 2 ID : 4410091200816

Option 3 ID : 4410091200817

Option 4 ID : 4410091200815

Status : Answered

Chosen Option : 3

Q.9  
2 ਹੇਠਲੇ ਵਿਕਲਪਾਂ ਵਿੱਚੋਂ ਨੇਕੀ ਦਾ ਵਿਰੋਧੀ ਸ਼ਬਦ ਕੀ ਹੈ?

Ans  1. ਬੇਇਨਸਾਫ਼ੀ

2. ਬਦੀ

3. ਨੌਕਰੀ

4. ਗਰਕੀ

Question ID : 441009308431

Option 1 ID : 4410091200365

Option 2 ID : 4410091200364

Option 3 ID : 4410091200362

Option 4 ID : 4410091200363

Status : Answered

Chosen Option : 1

**Comprehension:**

ਹੇਠ ਦਿੱਤਾ ਪੈਰਾ ਪੜ੍ਹੋ ਅਤੇ ਹੇਠਾਂ ਦਿੱਤੇ ਸਵਾਲਾਂ ਦੇ ਜਵਾਬ ਦਿਓ।

ਮਿਹਨਤ ਸਫਲਤਾ ਦੀ ਕੁੰਜੀ ਹੁੰਦੀ ਹੈ। ਜੇ ਵਿਅਕਤੀ ਆਪਣੇ ਜੀਵਨ ਵਿਚ ਮਿਹਨਤ ਕਰਦਾ ਹੈ, ਉਹ ਕਦੇ ਵੀ ਨਿਰਾਸ਼ ਨਹੀਂ ਹੁੰਦਾ। ਮਿਹਨਤ ਕਰ ਕੇ ਹੀ ਕਿਸਾਨ ਆਪਣੀ ਜ਼ਮੀਨ ਨੂੰ ਸੋਨਾ ਬਣਾ ਦਿੰਦਾ ਹੈ। ਵਿਦਿਆਰਥੀ, ਜੇ ਮਨ ਲਾ ਕੇ ਪੜ੍ਹਾਈ ਕਰੇ, ਤਾਂ ਉਹ ਪ੍ਰੀਖਿਆ ਵਿੱਚ ਚੰਗਾ ਨਤੀਜਾ ਲਿਆ ਸਕਦਾ ਹੈ। ਸਿਰਫ਼ ਸੁਪਨੇ ਦੇਖਣ ਨਾਲ ਨਹੀਂ, ਉਨ੍ਹਾਂ ਨੂੰ ਪੂਰਾ ਕਰਨ ਲਈ, ਦਿਨ-ਰਾਤ ਇੱਕ ਕਰਨਾ ਪੈਂਦਾ ਹੈ। ਅਜਿਹੀਆਂ ਕਈ ਉਦਾਹਰਣਾਂ ਸਾਡੇ ਆਲੇ-ਦੁਆਲੇ ਹਨ, ਜੋ ਦੱਸਦੀਆਂ ਹਨ ਕਿ ਮਿਹਨਤੀ ਲੋਕ ਹੀ ਇਤਿਹਾਸ ਰਚਦੇ ਹਨ। ਮਿਹਨਤ ਕਰਨ ਵਾਲਾ ਵਿਅਕਤੀ, ਕਦੀ ਕਿਸੇ ਤੋਂ ਡਰਦਾ ਨਹੀਂ। ਉਹ ਹਰ ਚੁਣੌਤੀ ਨੂੰ ਸਵੀਕਾਰ ਕਰਦਾ ਹੈ ਅਤੇ ਦਿਲੋਂ ਕੋਸ਼ਿਸ਼ ਕਰਦਾ ਹੈ ਕਿ ਉਹ ਆਪਣੇ ਲਕੜੀ ਦੇ ਪੈਰਾਂ ਨਾਲ ਵੀ ਦੁਨੀਆ ਨੂੰ ਹਿਲਾ ਸਕੇ। ਜਿਵੇਂ ਕਿ ਇੱਕ ਕਹਾਵਤ ਹੈ, "ਮਿਹਨਤ ਦਾ ਫਲ ਮਿੱਠਾ ਹੁੰਦਾ ਹੈ।"

**SubQuestion No : 93**

Q.9 ਦਿੱਤੇ ਗਏ ਸ਼ਬਦ ਦਾ ਵਿਰੋਧਾਰਥਕ ਸ਼ਬਦ, ਪੈਰੇ 'ਚੋਂ ਲੱਭ ਕੇ ਚੁਣੋ।

ਕੌੜਾ

Ans  1. ਨਮਕੀਨ

2. ਖਟਾਸ

3. ਮਿੱਠਾ

4. ਖੱਟਾ

Question ID : 441009309619

Option 1 ID : 4410091205005

Option 2 ID : 4410091205007

Option 3 ID : 4410091205006

Option 4 ID : 4410091205004

Status : Answered

Chosen Option : 3

**Comprehension:**

ਹੇਠ ਦਿੱਤਾ ਪੈਰਾ ਪੜ੍ਹੋ ਅਤੇ ਹੇਠਾਂ ਦਿੱਤੇ ਸਵਾਲਾਂ ਦੇ ਜਵਾਬ ਦਿਓ।

ਮਿਹਨਤ ਸਫਲਤਾ ਦੀ ਕੁੰਜੀ ਹੁੰਦੀ ਹੈ। ਜੇ ਵਿਅਕਤੀ ਆਪਣੇ ਜੀਵਨ ਵਿਚ ਮਿਹਨਤ ਕਰਦਾ ਹੈ, ਉਹ ਕਦੇ ਵੀ ਨਿਰਾਸ਼ ਨਹੀਂ ਹੁੰਦਾ। ਮਿਹਨਤ ਕਰ ਕੇ ਹੀ ਕਿਸਾਨ ਆਪਣੀ ਜ਼ਮੀਨ ਨੂੰ ਸੋਨਾ ਬਣਾ ਦਿੰਦਾ ਹੈ। ਵਿਦਿਆਰਥੀ, ਜੇ ਮਨ ਲਾ ਕੇ ਪੜ੍ਹਾਈ ਕਰੇ, ਤਾਂ ਉਹ ਪ੍ਰੀਖਿਆ ਵਿੱਚ ਚੰਗਾ ਨਤੀਜਾ ਲਿਆ ਸਕਦਾ ਹੈ। ਸਿਰਫ਼ ਸੁਪਨੇ ਦੇਖਣ ਨਾਲ ਨਹੀਂ, ਉਨ੍ਹਾਂ ਨੂੰ ਪੂਰਾ ਕਰਨ ਲਈ, ਦਿਨ-ਰਾਤ ਇੱਕ ਕਰਨਾ ਪੈਂਦਾ ਹੈ। ਅਜਿਹੀਆਂ ਕਈ ਉਦਾਹਰਣਾਂ ਸਾਡੇ ਆਲੇ-ਦੁਆਲੇ ਹਨ, ਜੋ ਦੱਸਦੀਆਂ ਹਨ ਕਿ ਮਿਹਨਤੀ ਲੋਕ ਹੀ ਇਤਿਹਾਸ ਰਚਦੇ ਹਨ। ਮਿਹਨਤ ਕਰਨ ਵਾਲਾ ਵਿਅਕਤੀ, ਕਦੀ ਕਿਸੇ ਤੋਂ ਡਰਦਾ ਨਹੀਂ। ਉਹ ਹਰ ਚੁਣੌਤੀ ਨੂੰ ਸਵੀਕਾਰ ਕਰਦਾ ਹੈ ਅਤੇ ਦਿਲੋਂ ਕੋਸ਼ਿਸ਼ ਕਰਦਾ ਹੈ ਕਿ ਉਹ ਆਪਣੇ ਲਕੜੀ ਦੇ ਪੈਰਾਂ ਨਾਲ ਵੀ ਦੁਨੀਆ ਨੂੰ ਹਿਲਾ ਸਕੇ। ਜਿਵੇਂ ਕਿ ਇੱਕ ਕਹਾਵਤ ਹੈ, "ਮਿਹਨਤ ਦਾ ਫਲ ਮਿੱਠਾ ਹੁੰਦਾ ਹੈ।"

**SubQuestion No : 94**

Q.9 ਕਿਸਾਨ ਆਪਣੀ ਜ਼ਮੀਨ ਨੂੰ ਕਿਸ ਤਰ੍ਹਾਂ ਸੋਨਾ ਬਣਾ ਦਿੰਦਾ ਹੈ?

Ans  1. ਮਿਹਨਤ ਕਰਕੇ

2. ਦੇਸਤਾਂ ਨਾਲ

3. ਮਸ਼ੀਨ ਨਾਲ

4. ਮੌਸਮ ਨਾਲ

Question ID : 441009309618

Option 1 ID : 4410091205000

Option 2 ID : 4410091205001

Option 3 ID : 4410091205002

Option 4 ID : 4410091205003

Status : Answered

Chosen Option : 1

**Comprehension:**

ਹੇਠ ਦਿੱਤਾ ਪੈਰਾ ਪੜ੍ਹੋ ਅਤੇ ਹੇਠਾਂ ਦਿੱਤੇ ਸਵਾਲਾਂ ਦੇ ਜਵਾਬ ਦਿਓ।

ਮਿਹਨਤ ਸਫ਼ਲਤਾ ਦੀ ਕੁੰਜੀ ਹੁੰਦੀ ਹੈ। ਜੇ ਵਿਅਕਤੀ ਆਪਣੇ ਜੀਵਨ ਵਿਚ ਮਿਹਨਤ ਕਰਦਾ ਹੈ, ਉਹ ਕਦੇ ਵੀ ਨਿਰਾਸ਼ ਨਹੀਂ ਹੁੰਦਾ। ਮਿਹਨਤ ਕਰ ਕੇ ਹੀ ਕਿਸਾਨ ਆਪਣੀ ਜ਼ਮੀਨ ਨੂੰ ਸੋਨਾ ਬਣਾ ਦਿੰਦਾ ਹੈ। ਵਿਦਿਆਰਥੀ, ਜੇ ਮਨ ਲਾ ਕੇ ਪੜ੍ਹਾਈ ਕਰੇ, ਤਾਂ ਉਹ ਪ੍ਰੀਖਿਆ ਵਿੱਚ ਚੰਗਾ ਨਤੀਜਾ ਲਿਆ ਸਕਦਾ ਹੈ। ਸਿਰਫ਼ ਸੁਪਨੇ ਦੇਖਣ ਨਾਲ ਨਹੀਂ, ਉਨ੍ਹਾਂ ਨੂੰ ਪੂਰਾ ਕਰਨ ਲਈ, ਦਿਨ-ਰਾਤ ਇੱਕ ਕਰਨਾ ਪੈਂਦਾ ਹੈ। ਅਜਿਹੀਆਂ ਕਈ ਉਦਾਹਰਣਾਂ ਸਾਡੇ ਆਲੇ-ਦੁਆਲੇ ਹਨ, ਜੋ ਦੱਸਦੀਆਂ ਹਨ ਕਿ ਮਿਹਨਤੀ ਲੋਕ ਹੀ ਇਤਿਹਾਸ ਰਚਦੇ ਹਨ। ਮਿਹਨਤ ਕਰਨ ਵਾਲਾ ਵਿਅਕਤੀ, ਕਦੀ ਕਿਸੇ ਤੋਂ ਡਰਦਾ ਨਹੀਂ। ਉਹ ਹਰ ਚੁਣੌਤੀ ਨੂੰ ਸਵੀਕਾਰ ਕਰਦਾ ਹੈ ਅਤੇ ਦਿਲੋਂ ਕੋਸ਼ਿਸ਼ ਕਰਦਾ ਹੈ ਕਿ ਉਹ ਆਪਣੇ ਲਕੜੀ ਦੇ ਪੈਰਾਂ ਨਾਲ ਵੀ ਦੁਨੀਆ ਨੂੰ ਹਿਲਾ ਸਕੇ। ਜਿਵੇਂ ਕਿ ਇੱਕ ਕਹਾਵਤ ਹੈ, "ਮਿਹਨਤ ਦਾ ਫਲ ਮਿੱਠਾ ਹੁੰਦਾ ਹੈ।"

**SubQuestion No : 95****Q.9** ਮਿਹਨਤ ਕਿਸ ਦੀ ਕੁੰਜੀ ਹੈ?

5

- Ans
- 1. ਆਲਸੀਪਨ
  - 2. ਸੰਘਰਸ਼
  - 3. ਸਫ਼ਲਤਾ
  - 4. ਵਿਅਕਤੀਗਤ ਜੀਵਨ

Question ID : 441009309617

Option 1 ID : 4410091204998

Option 2 ID : 4410091204997

Option 3 ID : 4410091204999

Option 4 ID : 4410091204996

Status : Answered

Chosen Option : 3

## Section : Digital Literacy and Awareness

**Q.9** Which of the following is NOT a standard element that can be inserted into a PowerPoint slide using the "Insert" tab?

6

- Ans
- 1. Hyperlinks
  - 2. Shapes
  - 3. Pictures
  - 4. Slide Transitions

Question ID : 441009134722

Option 1 ID : 441009535554

Option 2 ID : 441009535553

Option 3 ID : 441009535552

Option 4 ID : 441009535555

Status : Answered

Chosen Option : 2

**Q.9** When working with a document in a word processor, if you have selected a block of text and then press Ctrl + C, where is the copied content primarily stored for immediate future use?

- Ans**
- 1. The hard disk's temporary files
  - 2. The application's internal memory buffer
  - 3. The CPU's cache memory
  - 4. The operating system's clipboard

Question ID :	441009133937
Option 1 ID :	441009532421
Option 2 ID :	441009532423
Option 3 ID :	441009532424
Option 4 ID :	441009532422
Status :	Answered
Chosen Option :	3

**Q.9** WhatsApp web allows you to send up to \_\_\_\_\_ photos or videos at once.

- Ans**
- 1. 10
  - 2. 5
  - 3. 100
  - 4. 20

Question ID :	441009104213
Option 1 ID :	441009415043
Option 2 ID :	441009415042
Option 3 ID :	441009415045
Option 4 ID :	441009415044
Status :	Answered
Chosen Option :	1

**Q.9** In MS Word, if a document named 'Report\_Draft\_v1.docx' is open and you perform 'Save As' to 'Report\_Final.docx' in the same folder, what is the state of 'Report\_Draft\_v1.docx' immediately after the 'Save As' operation is completed?

- Ans**
- 1. It remains open and now contains the content of 'Report\_Final.docx'.
  - 2. It is renamed to 'Report\_Draft\_v1\_old.docx'.
  - 3. It is closed automatically.
  - 4. It remains open and contains the content as it was before the 'Save As' operation.

Question ID :	441009134241
Option 1 ID :	441009533636
Option 2 ID :	441009533637
Option 3 ID :	441009533634
Option 4 ID :	441009533635
Status :	Answered
Chosen Option :	4

Q.1 Within a text editor operating in 'Insert' mode, what is the expected behaviour when the 'Ins' (Insert) key is pressed once, and then new characters are typed?

- Ans
- 1. Existing characters at the cursor position will be overwritten by the newly typed characters.
  - 2. New characters will be inserted at the cursor position, and existing characters will be shifted to the right.
  - 3. The text editor will switch to 'Overwrite' mode, and subsequent typing will replace existing characters.
  - 4. The cursor will move to the next line, and new characters will be inserted there.

Question ID : 441009134021

Option 1 ID : 441009532757

Option 2 ID : 441009532759

Option 3 ID : 441009532760

Option 4 ID : 441009532758

Status : Answered

Chosen Option : 4

Section : Qualifying Paper of Punjabi Language

Q.1 "Cry wolf" ਦਾ ਪੰਜਾਬੀ ਅਨੁਵਾਦ ਕੀ ਹੈ?

- Ans
- 1. ਸਾਫ਼-ਸਾਫ਼ ਦੱਸਣਾ
  - 2. ਝੂਠੀ ਚਿਤਾਵਨੀ ਦੇਣੀ
  - 3. ਬਘਿਆੜ ਦਾ ਰੀਂਗਣਾ
  - 4. ਉੱਚੀ-ਉੱਚੀ ਬੋਲਣਾ

Question ID : 441009303609

Option 1 ID : 4410091181070

Option 2 ID : 4410091181068

Option 3 ID : 4410091181069

Option 4 ID : 4410091181071

Status : Answered

Chosen Option : 3

Q.2 “Thursday” ਦਾ ਸਹੀ ਪੰਜਾਬੀ ਅਨੁਵਾਦ ਕੀ ਹੈ?

- Ans
- 1. ਵੀਰਵਾਰ
  - 2. ਮੰਘਲਵਾਰ
  - 3. ਵਿਰਾਵਾਰ
  - 4. ਮੰਗਲਵਾਰ

Question ID : 441009308524

Option 1 ID : 4410091200753

Option 2 ID : 4410091200751

Option 3 ID : 4410091200750

Option 4 ID : 4410091200752

Status : Answered

Chosen Option : 1

Q.3 What is the correct Punjabi translation of the sentence below?  
"He confessed to committing the crime under pressure."

- Ans
- 1. ਉਸਨੇ ਦਬਾਅ ਹੇਠ ਜੁਰਮ ਕਰਨ ਦੀ ਸਵੀਕਾਰਕਤੀ ਦਿੱਤੀ
  - 2. ਉਸਨੇ ਦਬਾਅ ਹੇਠ ਗਵਾਹ ਬਣਨ ਤੋਂ ਇਨਕਾਰ ਕੀਤਾ
  - 3. ਉਸਨੇ ਕਹਾਣੀ ਘੜੀ ਸੀ
  - 4. ਉਸਨੇ ਦਬਾਅ ਵਿੱਚ ਆ ਕੇ ਪੁਲਿਸ ਨੂੰ ਛੱਡ ਦਿੱਤਾ

Question ID : 441009306922

Option 1 ID : 4410091194383

Option 2 ID : 4410091194385

Option 3 ID : 4410091194386

Option 4 ID : 4410091194384

Status : Answered

Chosen Option : 1

Q.4 ਦਿੱਤੇ ਗਏ ਵਾਕ ਵਿੱਚ “ਜੀਵ” ਸ਼ਬਦ ਕਿਹੋ ਜਿਹਾ ਹੈ?

ਜੀਵ ਧਰਤੀ 'ਤੇ ਰਹਿੰਦੇ ਹਨ।

- Ans
- 1. ਪੜਨਾਵ
  - 2. ਨਾਵ
  - 3. ਵਿਸ਼ੇਸ਼ਣ
  - 4. ਕਿਰਿਆ

Question ID : 441009328812

Option 1 ID : 4410091281660

Option 2 ID : 4410091281661

Option 3 ID : 4410091281659

Option 4 ID : 4410091281658

Status : Answered

Chosen Option : 2

Q.5 ਚੇਰੀ ਕੱਖ ਦੀ ਵੀ ਤੇ \_\_\_ ਵੀ ।-ਅਖਾਣ ਪੂਰਾ ਕਰਨ ਲਈ ਸਹੀ ਸ਼ਬਦ ਚੁਣੋ।

- Ans
- 1. ਜਗ ਦੀ
  - 2. ਪੱਖ ਦੀ
  - 3. ਲੱਖ ਦੀ
  - 4. ਵੱਖ ਦੀ

Question ID : 441009290580

Option 1 ID : 4410091129231

Option 2 ID : 4410091129228

Option 3 ID : 4410091129229

Option 4 ID : 4410091129230

Status : Answered

Chosen Option : 3

Q.6 ਹੇਠ ਦਿੱਤੇ ਸਵਾਲ ਵਿੱਚ, ਦਿੱਤੇ ਗਏ ਚਾਰ ਵਿਕਲਪਾਂ ਵਿੱਚੋਂ, ਉਹ ਵਿਕਲਪ ਚੁਣੋ ਜੋ ਮੁਹਾਵਰੇ/ਵਾਕਾਂਸ਼ ਦੇ ਅਰਥ ਨੂੰ ਸਭ ਤੋਂ ਵਧੀਆ ਢੰਗ ਨਾਲ ਪ੍ਰਗਟ ਕਰਦਾ ਹੈ।

ਉਲਟਾ ਚੇਰ ਕੋਤਵਾਲ ਨੂੰ ਡਾਂਟੇ

- Ans
- 1. ਨਿਰਦੋਸ਼ ਹੋਣਾ
  - 2. ਚੇਰੀ ਕਰਕੇ ਭੱਜ ਜਾਣਾ
  - 3. ਦੇਸ਼ੀ ਹੋ ਕੇ ਦੂਜਿਆਂ ਨੂੰ ਦੇਸ਼ ਦੇਣਾ
  - 4. ਚੁੱਪ ਰਹਿਣਾ

Question ID : 441009288093

Option 1 ID : 4410091119273

Option 2 ID : 4410091119271

Option 3 ID : 4410091119272

Option 4 ID : 4410091119274

Status : Answered

Chosen Option : 3

Q.7 ਪੰਜਾਬੀ ਅਖਾਣ 'ਅਕਲ ਦਾ ਅੰਨ੍ਹਾ ਗੰਢ ਦਾ ਪੂਰਾ' ਦਾ ਕੀ ਭਾਵ ਹੈ?

- Ans
- 1. ਧਾਗੇ ਵਿਚ ਆਈ ਗੰਢ, ਤਿੜਕੇ ਰਿਸ਼ਤਿਆਂ ਦਾ ਪ੍ਰਤੀਕ ਹੈ
  - 2. ਜਿਸ ਨੂੰ ਦੂਜਿਆਂ ਵਿੱਚ ਹਮੇਸ਼ਾ ਕੱਜ ਦਿਖੇ
  - 3. ਅਕਲਮੰਦ ਇਨਸਾਨ ਜੋ ਕਦੀ ਕਦੀ ਬੇਵਕੂਫੀਆਂ ਕਰਨਾ ਜ਼ਰੂਰੀ ਸਮਝਦਾ ਹੈ
  - 4. ਮੁਰਖ ਅਮੀਰ ਜਿਸ ਨੂੰ ਪੈਸੇ ਦੀ ਕਦਰ ਨਾ ਹੋਵੇ

Question ID : 441009288111

Option 1 ID : 4410091119345

Option 2 ID : 4410091119344

Option 3 ID : 4410091119346

Option 4 ID : 4410091119343

Status : Answered

Chosen Option : 3

Q.8 "ਸਹਿਯੋਗ" ਸ਼ਬਦ ਵਿੱਚ "ਸਹਿ-" ਅਗੇਤਰ ਮੂਲ ਸ਼ਬਦ "ਯੋਗ" ਨਾਲ ਜੁੜ ਕੇ ਕਿਸ ਤਰ੍ਹਾਂ ਦੇ ਅਰਥਾਂ ਨੂੰ ਉਜਾਗਰ ਕਰਦਾ ਹੈ, ਜੋ ਸਿਰਫ "ਨਾਲ" ਹੋਣ ਤੋਂ ਵੱਖਰਾ ਹੈ?

Ans  1. ਕਿਸੇ ਚੀਜ਼ ਤੋਂ ਦੂਰ ਰਹਿਣਾ

2. ਵਿਰੋਧ ਜਾਂ ਮੁਕਾਬਲਾ

3. ਇਕੱਠੇ ਮਿਲ ਕੇ ਕੰਮ ਕਰਨਾ ਜਾਂ ਸਾਂਝਾ ਯੋਗਦਾਨ ਦੇਣਾ

4. ਕਿਸੇ ਚੀਜ਼ ਦੀ ਕਮੀ

Question ID : 441009311032

Option 1 ID : 4410091210630

Option 2 ID : 4410091210628

Option 3 ID : 4410091210629

Option 4 ID : 4410091210631

Status : Answered

Chosen Option : 3

Q.9 ਅਖਾਣ ਅਨੁਸਾਰ ਕਿਹੜਾ ਵਿਕਲਪ ਉਚਿਤ ਨਹੀਂ ਹੈ?

Ans  1. ਅਨੇਕਾਂ ਪੀੜ੍ਹੀਆਂ ਦੇ ਤਜਰਬਿਆਂ ਤੇ ਸਿਆਣਪਾਂ ਨਾਲ ਓਤ-ਪੋਤ

2. ਅਟੱਲ ਸਚਾਈ, ਭਾਵ ਜਾਂ ਵਿਚਾਰ ਆਦਿ ਦਾ ਪੂਰਨ ਪ੍ਰਗਟਾਅ

3. ਅਖਾਣ ਕਾਲ, ਵਚਨ, ਪੁਲਿੰਗ ਤੇ ਕਿਰਿਆ ਅਨੁਸਾਰ ਬਦਲ ਸਕਦੀ ਹੈ

4. ਥੋੜ੍ਹੇ ਸ਼ਬਦਾਂ ਵਿੱਚ ਜੀਵਨ ਦਾ ਤੱਤ ਨਿਚੋੜ

Question ID : 441009287067

Option 1 ID : 4410091115224

Option 2 ID : 4410091115226

Option 3 ID : 4410091115227

Option 4 ID : 4410091115225

Status : Answered

Chosen Option : 4

Q.1 ਦਿੱਤੇ ਗਏ ਸ਼ਬਦਾਂ ਵਿੱਚੋਂ ਸਹੀ ਵਿਕਲਪ ਚੁਣੋ, ਜਿਹੜਾ "ਏਰਾ" ਪਿਛੇਤਰ ਨਾਲ ਨਹੀਂ ਬਣਿਆ ਹੈ।

Ans  1. ਲੁਟੇਰਾ

2. ਸਵੇਰਾ

3. ਕਟੇਰਾ

4. ਚੰਗੇਰਾ

Question ID : 441009325448

Option 1 ID : 4410091268105

Option 2 ID : 4410091268107

Option 3 ID : 4410091268106

Option 4 ID : 4410091268104

Status : Answered

Chosen Option : 1

Q.1  
1 "ਮੇਰਾ" ਸ਼ਬਦ ਦਾ ਕਿਹੜਾ ਭੇਦ ਹੈ?

Ans ✗ 1. ਸੰਦੇਹ ਬੋਧਕ

✓ 2. ਪੜਨਾਂਵ

✗ 3. ਵਿਸ਼ੇਸ਼ਣ

✗ 4. ਸੰਖਿਆ ਬੋਧਕ

Question ID : 441009304722

Option 1 ID : 4410091185564

Option 2 ID : 4410091185563

Option 3 ID : 4410091185562

Option 4 ID : 4410091185565

Status : Answered

Chosen Option : 2

Q.1  
2 ਦਿੱਤੇ ਗਏ ਚਾਰਾਂ ਵਿਕਲਪਾਂ 'ਚੋਂ ਸ਼ੁੱਧ ਸ਼ਬਦ ਚੁਣੋ।

ਬੁਜੁਰਗ

Ans ✗ 1. ਬਜੁਰੀਗ

✗ 2. ਬੁਜੁਰਿਗ

✗ 3. ਬੁਜੁਰਗ

✓ 4. ਬਜੁਰਗ

Question ID : 441009329510

Option 1 ID : 4410091284482

Option 2 ID : 4410091284485

Option 3 ID : 4410091284483

Option 4 ID : 4410091284484

Status : Answered

Chosen Option : 4

Q.1  
3 ਲੇਖਾ ਮਾਂਵਾਂ.....ਦਾ।- ਅਖਾਣ ਪੁਰਾ ਕਰੋ

Ans ✗ 1. ਭੈਣਾਂ

✗ 2. ਮਾਈਆਂ

✓ 3. ਧੀਆਂ

✗ 4. ਮਾਸੀਆਂ

Question ID : 441009308400

Option 1 ID : 4410091200238

Option 2 ID : 4410091200241

Option 3 ID : 4410091200240

Option 4 ID : 4410091200239

Status : Answered

Chosen Option : 3

Q.1  
4 ਹੇਠਾਂ ਲਿਖਿਆਂ ਵਿਚੋਂ ਸਹੀ ਸ਼ਬਦ ਚੁਣੋ

- Ans
- 1. ਪ੍ਰੇੜਨਾ
  - 2. ਬਿਅਰਥ
  - 3. ਹਮਦਰਦੀ
  - 4. ਚੱਨ

Question ID : 441009286695

Option 1 ID : 4410091113753

Option 2 ID : 4410091113752

Option 3 ID : 4410091113754

Option 4 ID : 4410091113755

Status : Answered

Chosen Option : 3

Q.1  
5 ਸਹੀ ਪੰਜਾਬੀ ਸ਼ਬਦ ਚੁਣੋ

- Ans
- 1. ਰੁਚਕਤਾ
  - 2. ਸਾਹਿਤਕਾਰ
  - 3. ਸਿਹਤਯਾਬੀ
  - 4. ਸੇਹਤਕਾਰ

Question ID : 441009284602

Option 1 ID : 4410091105463

Option 2 ID : 4410091105465

Option 3 ID : 4410091105464

Option 4 ID : 4410091105462

Status : Answered

Chosen Option : 2

Q.1  
6 ਯੋਜਕ ਦੀਆਂ ਕਿੰਨੀਆਂ ਕਿਸਮਾਂ ਹੁੰਦੀਆਂ ਹਨ?

- Ans
- 1. ਤਿੰਨ
  - 2. ਪੰਜ
  - 3. ਚਾਰ
  - 4. ਦੋ

Question ID : 441009336753

Option 1 ID : 4410091313037

Option 2 ID : 4410091313039

Option 3 ID : 4410091313038

Option 4 ID : 4410091313036

Status : Answered

Chosen Option : 1

Q.1 ਹੇਠ ਦਿੱਤੇ ਵਾਕ ਲਈ ਸਭ ਤੋਂ ਸਹੀ ਅੰਗਰੇਜ਼ੀ ਅਨੁਵਾਦ ਚੁਣੋ:  
7 Punjabi Sentence: ਮਿਹਨਤ ਤਾਂ ਹਰ ਕੋਈ ਕਰਦਾ ਹੈ, ਪਰ ਸਫਲਤਾ ਸਿਰਫ ਸਮੇਂ ਦੇ ਪਾਬੰਦ ਲੋਕਾਂ ਨੂੰ ਮਿਲਦੀ ਹੈ।

- Ans
- 1. Everyone works hard, but success comes to those who are punctual.
  - 2. Success depends on fate, not punctuality.
  - 3. Only lucky people succeed, even if they don't work hard.
  - 4. Time doesn't matter if you are already skilled.

Question ID : 441009318466

Option 1 ID : 4410091240153

Option 2 ID : 4410091240155

Option 3 ID : 4410091240154

Option 4 ID : 4410091240156

Status : Answered

Chosen Option : 1

Q.1 ਗ਼ਲਤ ਪੰਜਾਬੀ ਸ਼ਬਦ ਦੀ ਚੋਣ ਕਰੋ।  
8

- Ans
- 1. ਟਾਕਰਾ
  - 2. ਚਰਚਾ
  - 3. ਸਪਾਮਤੀ
  - 4. ਨੁਕਸ

Question ID : 441009286745

Option 1 ID : 4410091113953

Option 2 ID : 4410091113952

Option 3 ID : 4410091113955

Option 4 ID : 4410091113954

Status : Answered

Chosen Option : 3

Q.1 ਦਿੱਤੇ ਗਏ ਵਿਕਲਪਾਂ ਵਿੱਚੋਂ ਸੁੱਧ ਵਾਕ ਚੁਣੋ।  
9 ਮੇਹਨ ਪੜ੍ਹਨ ਵਿੱਚ ਬਹੁਤਾ ਹੁਸ਼ਿਆਰ ਨਹੀਂ ਹੈ।

- Ans
- 1. ਮੇਹਨ ਪੜ੍ਹਨ ਵਿੱਚ ਬਹੁਤਾ ਹੁਸ਼ਿਆਰ ਨਹੀਂ ਹੈ।
  - 2. ਮੇਹਨ ਪੜ੍ਹਨ ਵਿੱਚ ਬਹੁਤਾ ਹੁਸ਼ਿਆਰ ਠਾਹੀਂ ਹੈ।
  - 3. ਮੇਹਨ ਪੜ੍ਹਣਾ ਵਿੱਚ ਬਹੁਤਾ ਹੁਸ਼ਿਆਰ ਨਹੀਂ ਹਿ।
  - 4. ਮੇਹਨ ਪੜ੍ਹਨ ਵਿੱਚ ਬਹੁਤਾ ਹੁਸ਼ਿਆਰ ਨਹੀਂ ਹੈ।

Question ID : 441009331392

Option 1 ID : 4410091291789

Option 2 ID : 4410091291787

Option 3 ID : 4410091291788

Option 4 ID : 4410091291786

Status : Answered

Chosen Option : 1

Q.2  
0 ਹੇਠ ਲਿਖੇ ਵਾਕਾਂ ਵਿੱਚੋਂ ਸਹੀ ਵਿਸ਼ਰਾਮ ਚਿੰਨ੍ਹਾਂ ਵਾਲਾ ਵਾਕ ਚੁਣੋ

Ans  1. ਕੀ ਤੁਸੀਂ ਅੱਜ ਆਓਗੇ?

2. ਕੀ ਤੁਸੀਂ ਅੱਜ ਆਓਗੇ।

3. ਕੀ? ਤੁਸੀਂ ਅੱਜ ਆਓਗੇ।

4. ਕੀ ਤੁਸੀਂ ਅੱਜ ਆਓਗੇ

Question ID : 441009289157

Option 1 ID : 4410091123591

Option 2 ID : 4410091123593

Option 3 ID : 4410091123592

Option 4 ID : 4410091123590

Status : Answered

Chosen Option : 1

Q.2  
1 ਦਿੱਤੇ ਗਏ ਵਾਕਾਂ ਵਿੱਚੋਂ ਵਿਸਮਿਕ ਚਿੰਨ੍ਹ ਸਮੇਤ ਸ਼ੁੱਧ ਵਾਕ ਚੁਣੋ।

Ans  1. ਰਾਜ ਅਮਨ ਤੇ ਪੁਨਮ ਆਏ।

2. ਰਾਜ। ਅਮਨ ਤੇ ਪੁਨਮ ਆਏ।

3. ਰਾਜ, ਅਮਨ ਤੇ, ਪੁਨਮ ਆਏ।

4. ਰਾਜ, ਅਮਨ ਤੇ ਪੁਨਮ ਆਏ।

Question ID : 441009304538

Option 1 ID : 4410091184848

Option 2 ID : 4410091184846

Option 3 ID : 4410091184847

Option 4 ID : 4410091184849

Status : Answered

Chosen Option : 4

Q.2  
2 ਦਿੱਤੇ ਗਏ ਵਾਕਾਂ ਕਿਹੜੇ ਵਾਕ ਵਿੱਚ '—' ਦੀ ਗ਼ਲਤ ਵਰਤੋਂ ਕੀਤੀ ਗਈ ਹੈ?

Ans  1. ਮੈਂ ਚਾਹੁੰਦਾ ਹਾਂ—ਨਵੀਂ ਗੱਡੀ ਖ਼ਰੀਦਾਂ।

2. ਅਸੀਂ ਇੱਕ ਦਿਨ — ਹਮੇਸ਼ਾਂ ਯਾਦ ਰੱਖੋ — ਇਕੱਠੇ ਚੱਲੇ ਸਾਂ।

3. ਉਹ—ਜੋ ਸਾਡਾ ਦੇਸ਼ਤ ਹੈ— ਹਮੇਸ਼ਾਂ ਸਾਡੇ ਨਾਲ ਹੁੰਦਾ ਹੈ।

4. ਉਹ ਮੈਨੂੰ ਭੁਲ ਗਿਆ—ਇਹ ਸੋਚ ਕੇ ਮੈਂ ਨਰਾਜ਼ ਹੋ ਗਿਆ।

Question ID : 441009329439

Option 1 ID : 4410091284187

Option 2 ID : 4410091284189

Option 3 ID : 4410091284186

Option 4 ID : 4410091284188

Status : Answered

Chosen Option : 2

Q.2  
3 “ਐਤਵਾਰ” ਤੋਂ ਇੱਕ ਦਿਨ ਬਾਅਦ ਕਿਹੜਾ ਦਿਨ ਆਉਂਦਾ ਹੈ?

Ans ✗ 1. ਬੁਧਵਾਰ

✓ 2. ਮੰਗਲਵਾਰ

✗ 3. ਬੁੱਧਵਾਰ

✗ 4. ਮੱਗਲਵਾਰ

Question ID : 441009308646

Option 1 ID : 4410091201261

Option 2 ID : 4410091201262

Option 3 ID : 4410091201260

Option 4 ID : 4410091201263

Status : Answered

Chosen Option : 2

Q.2  
4 ਦੁਰ- ਅਗੇਤਰ ਵਾਲਾ ਸਹੀ ਸ਼ਬਦ ਚੁਣੋ

Ans ✗ 1. ਦੁਰਾਚਾਰ

✗ 2. ਦੁਰਸ਼ਾਸਨ

✗ 3. ਦੁਰਬਲ

✓ 4. ਇਹ ਸਾਰੇ ਸਹੀ ਹਨ

Question ID : 441009298512

Option 1 ID : 4410091161107

Option 2 ID : 4410091161108

Option 3 ID : 4410091161106

Option 4 ID : 4410091161109

Status : Answered

Chosen Option : 1

Q.2  
5 ਸਹੀ ਸ਼ਬਦ ਚੁਣੋ

Ans ✗ 1. ਅੰਗਾ

✗ 2. ਪਨਜਾਬੀ

✓ 3. ਖਰ੍ਹਵੀਆਂ

✗ 4. ਟੁਟਣ

Question ID : 441009328676

Option 1 ID : 4410091281130

Option 2 ID : 4410091281133

Option 3 ID : 4410091281132

Option 4 ID : 4410091281131

Status : Answered

Chosen Option : 4

Q.2 ਦਿੱਤੇ ਵਿਕਲਪਾਂ ਵਿੱਚੋਂ ਸਹੀ ਵਿਕਲਪਾਂ ਦੇ ਚੋਣ ਕਰੋ:

- Ans
- 1. ੨੧, ੨੨, ੨੪, ੨੩, ੨੫, ੨੬, ੨੭, ੨੯, ੨੮
  - 2. ੨੧, ੨੨, ੨੩, ੨੪, ੨੫, ੨੬, ੨੭, ੨੯, ੨੮
  - 3. ੨੧, ੨੨, ੨੩, ੨੪, ੨੫, ੨੬, ੨੭, ੨੮, ੨੯
  - 4. ੨੧, ੨੨, ੨੩, ੨੫, ੨੪, ੨੬, ੨੭, ੨੮, ੨੯

Question ID : 441009287553

Option 1 ID : 4410091117137

Option 2 ID : 4410091117138

Option 3 ID : 4410091117136

Option 4 ID : 4410091117139

Status : Answered

Chosen Option : 3

Q.2 ਅੰਗਰੇਜ਼ੀ ਵਿੱਚ ਦਿੱਤੇ ਸ਼ਬਦ ਦਾ ਪੰਜਾਬੀ ਵਿੱਚ ਅਨੁਵਾਦ ਕਰੋ।

The blindman was selling pencils on the walkside.

- Ans
- 1. ਸੜਕ ਅੰਨ੍ਹਾ ਆਦਮੀ ਕਿਨਾਰੇ ਪੈਨਸਿਲਾਂ ਵੇਚ ਰਿਹਾ ਸ।
  - 2. ਸੜਕ ਅੰਨ੍ਹਾ ਆਦਮੀ ਕਿਨਾਰੇ ਪੈਨਸਿਲਾਂ ਵੇਚ ਰਿਹਾ ਸੀ।
  - 3. ਅੰਨ੍ਹਾ ਆਦਮੀ ਸੜਕ ਕਿਨਾਰੇ ਪੈਨਸਿਲਾਂ ਵੇਚ ਰਿਹਾ ਸੀ।
  - 4. ਅੰਨ੍ਹਾ ਆਦਮੀ ਸੜਕ ਪੈਨਸਿਲਾਂ ਕਿਨਾਰੇ ਵੇਚ ਰਿਹਾ ਸੀ।

Question ID : 441009305580

Option 1 ID : 4410091189069

Option 2 ID : 4410091189066

Option 3 ID : 4410091189067

Option 4 ID : 4410091189068

Status : Answered

Chosen Option : 3

Q.2 ਦਿੱਤੇ ਗਏ ਸ਼ਬਦਾਂ ਵਿੱਚੋਂ ਸਹੀ ਵਿਕਲਪ ਚੁਣੋ, ਜਿਹੜਾ "ਗਰੀਬੜਾ" ਸ਼ਬਦ ਵਿੱਚ ਪਿਛੇਤਰ ਲੱਗਿਆ ਹੈ।

- Ans
- 1. ਝਾ
  - 2. ਰੀਬੜਾ
  - 3. ਗਰੀਬ
  - 4. ਬੜਾ

Question ID : 441009325450

Option 1 ID : 4410091268114

Option 2 ID : 4410091268115

Option 3 ID : 4410091268112

Option 4 ID : 4410091268113

Status : Answered

Chosen Option : 1

Q.2 ਅੰਗਰੇਜ਼ੀ ਵਿੱਚ ਦਿੱਤੇ ਗਏ ਵਾਕ ਦਾ ਪੰਜਾਬੀ ਵਿੱਚ ਅਨੁਵਾਦ ਕਰੋ।

9

Everyone should have the right to education.

Ans ✓ 1. ਹਰ ਕਿਸੇ ਨੂੰ ਸਿੱਖਿਆ ਦਾ ਅਧਿਕਾਰ ਹੋਣਾ ਚਾਹੀਦਾ ਹੈ।

✗ 2. ਹਰ ਅਧਿਕਾਰ ਕਿਸੇ ਨੂੰ ਸਿੱਖਿਆ ਦਾ ਹੋਣਾ ਚਾਹੀਦਾ ਹੈ।

✗ 3. ਕਿਸੇ ਨੂੰ ਹਰ ਸਿੱਖਿਆ ਦਾ ਅਧਿਕਾਰ ਹੋਣਾ ਚਾਹੀਦਾ ਹੈ।

✗ 4. ਸਿੱਖਿਆ ਦਾ ਹਰ ਨੂੰ ਅਧਿਕਾਰ ਕਿਸੇ ਹੋਣਾ ਚਾਹੀਦਾ ਹੈ।

Question ID : 441009327881

Option 1 ID : 4410091277991

Option 2 ID : 4410091277992

Option 3 ID : 4410091277993

Option 4 ID : 4410091277994

Status : Answered

Chosen Option : 1

Q.3 ਕਿਰਿਆ-ਵਿਸ਼ੇਸ਼ਣ ਚੁਣੋ:

0

Ans ✓ 1. ਤੇਜ਼, ਬਹੁਤ ਉੱਚਾ, ਉੱਪਰ

✗ 2. ਖਾ, ਪੀ, ਸੌਂ

✗ 3. ਆਉਣਾ, ਜਾਣਾ

✗ 4. ਹੱਸਣਾ, ਖੇਡਣਾ

Question ID : 441009326919

Option 1 ID : 4410091274042

Option 2 ID : 4410091274040

Option 3 ID : 4410091274043

Option 4 ID : 4410091274041

Status : Answered

Chosen Option : 3

Q.3 "ਰੁੱਖਾਂ ਦੀ ਛਾਂ ਹੇਠ ਬੈਠਣਾ ਚੰਗਾ ਲੱਗਦਾ ਹੈ।" ਇਸ ਵਾਕ ਵਿੱਚ 'ਬੈਠਣਾ' ਕਿਸ ਪ੍ਰਕਾਰ ਦੀ ਕਿਰਿਆ ਹੈ?

1

Ans ✗ 1. ਭਾਵਦਾਸਕ ਕਿਰਿਆ

✓ 2. ਅਕਰਮਕ ਕਿਰਿਆ

✗ 3. ਸਕਰਮਕ ਕਿਰਿਆ

✗ 4. ਮਿਸ਼ਰਿਤ ਕਿਰਿਆ

Question ID : 441009282815

Option 1 ID : 4410091098417

Option 2 ID : 4410091098415

Option 3 ID : 4410091098414

Option 4 ID : 4410091098416

Status : Answered

Chosen Option : 1

Q.3 ਦਿੱਤੇ ਗਏ ਵਿਕਲਪਾਂ ਵਿੱਚੋਂ ਸ਼ੁੱਧ ਵਾਕ ਚੁਣੋ।

2

ਮੱਝ ਤਿੰਨ-ਚਾਰ ਕਿਲੋ ਦੂਧ ਦੇ ਦਿੰਦਾ ਹੈ।

Ans ✗ 1. ਮੱਝ ਤਿੰਨ-ਚਾਰ ਕੀਲੋ ਦੂਧ ਦੇ ਦਿੰਦਾ ਹਨ।

✗ 2. ਮੱਝ ਤਿੰਨ-ਚਾਰ ਕਿਲੋ ਦੂਧ ਦੇ ਦਿੰਦੀ ਹੈ।

✗ 3. ਮੱਝ ਤਿੰਨ-ਚਾਰ ਕੀਲੋ ਦੁੱਧ ਦੇ ਦਿੰਦਾ ਹੈ।

✓ 4. ਮੱਝ ਤਿੰਨ-ਚਾਰ ਕਿਲੋ ਦੁੱਧ ਦੇ ਦਿੰਦੀ ਹੈ।

Question ID : 441009331396

Option 1 ID : 4410091291797

Option 2 ID : 4410091291795

Option 3 ID : 4410091291796

Option 4 ID : 4410091291794

Status : Answered

Chosen Option : 4

Q.3 ਦਿੱਤੇ ਗਏ ਚਾਰਾਂ ਵਿਕਲਪਾਂ 'ਚੋਂ ਸ਼ੁੱਧ ਸ਼ਬਦ ਚੁਣੋ।

3

ਸਮੇਝਦਾਰ

Ans ✓ 1. ਸਮੇਝਦਾਰ

✗ 2. ਸਮੀਝਦਾਰ

✗ 3. ਸਮਝਦੇਰ

✗ 4. ਸਮੱਝਦਾਰ

Question ID : 441009331158

Option 1 ID : 4410091291142

Option 2 ID : 4410091291143

Option 3 ID : 4410091291145

Option 4 ID : 4410091291144

Status : Answered

Chosen Option : 1

Q.3 ਸੰਗਾਉ' ਦਾ ਵਿਰੋਧੀ ਸ਼ਬਦ ਹੈ:

4

Ans ✗ 1. ਧੀਰਾ

✓ 2. ਨਿਝੱਕ

✗ 3. ਨਿਰਮਾਣ

✗ 4. ਹੰਕਾਰੀ

Question ID : 441009288092

Option 1 ID : 4410091119270

Option 2 ID : 4410091119267

Option 3 ID : 4410091119268

Option 4 ID : 4410091119269

Status : Answered

Chosen Option : 2

Q.3  
5 ਦਿੱਤੇ ਗਏ ਵਾਕਾਂ ਵਿੱਚੋਂ ਸ਼ੁੱਧ ਵਿਸ਼ਰਾਮ ਚਿੰਨ੍ਹ ਵਾਲਾ ਵਾਕ ਚੁਣੋ।

- Ans
- 1. ਉਨ੍ਹਾਂ ਨੇ ਪੁੱਛਿਆ; "ਕਿਹੜਾ ਰਸਤਾ ਸਿੱਧਾ ਜਾਂਦਾ ਹੈ?"
  - 2. ਉਨ੍ਹਾਂ ਨੇ ਪੁੱਛਿਆ "ਕਿਹੜਾ ਰਸਤਾ ਸਿੱਧਾ ਜਾਂਦਾ ਹੈ?"
  - 3. ਉਨ੍ਹਾਂ ਨੇ ਪੁੱਛਿਆ - "ਕਿਹੜਾ ਰਸਤਾ ਸਿੱਧਾ ਜਾਂਦਾ ਹੈ?"
  - 4. ਉਨ੍ਹਾਂ ਨੇ ਪੁੱਛਿਆ, ਕਿਹੜਾ ਰਸਤਾ ਸਿੱਧਾ ਜਾਂਦਾ ਹੈ ?

Question ID : 441009304569

Option 1 ID : 4410091184967

Option 2 ID : 4410091184966

Option 3 ID : 4410091184968

Option 4 ID : 4410091184969

Status : Answered

Chosen Option : 4

Q.3  
6 ਸਹੀ ਵਾਕ ਦੀ ਚੋਣ ਕਰੋ:

- Ans
- 1. ਉਸ ਦਾ ਪੁੱਤਰ ਵਿਦੇਸ਼ ਗਿਆ ਹੈ।
  - 2. ਉਸ ਦਾ ਪੁੱਤਰ ਵਿਦੇਸ਼ ਗਿਆ ਹੈ।
  - 3. ਉਸਦਾ ਪੁੱਤਰ ਵਿਦੇਸ਼ ਗਿਆ ਹੈ।
  - 4. ਉਸ ਦਾ ਪੁੱਤਰ ਵਿਦੇਸ਼ ਗਿਆ ਹੈ।

Question ID : 441009300761

Option 1 ID : 4410091170149

Option 2 ID : 4410091170150

Option 3 ID : 4410091170148

Option 4 ID : 4410091170151

Status : Answered

Chosen Option : 1

Q.3  
7 ਹੇਠ ਦਿੱਤੇ ਸਵਾਲ ਵਿੱਚ, ਦਿੱਤੇ ਗਏ ਚਾਰ ਵਿਕਲਪਾਂ ਵਿੱਚੋਂ, ਉਹ ਵਿਕਲਪ ਚੁਣੋ ਜੋ ਮੁਹਾਵਰੇ/ਵਾਕਾਂਸ਼ ਦੇ ਅਰਥ ਨੂੰ ਸਭ ਤੋਂ ਵਧੀਆ ਢੰਗ ਨਾਲ ਪ੍ਰਗਟ ਕਰਦਾ ਹੈ।

ਧੀ ਦੀ ਸਿਫਤ ਪਿਉ ਦੇ ਮੂੰਹ

- Ans
- 1. ਜਦੋਂ ਮਾਂ ਗੁੱਸੇ ਵਿੱਚ ਹੋਵੇ
  - 2. ਜਦੋਂ ਧੀ ਦੂਰ ਜਾਵੇ
  - 3. ਜਦੋਂ ਧੀ ਰੋਵੇ
  - 4. ਜਦੋਂ ਬਾਪ ਆਪਣੀ ਧੀ ਦੀ ਵੱਡੀ ਵਾਹ ਵਾਹ ਕਰੇ

Question ID : 441009305277

Option 1 ID : 4410091187875

Option 2 ID : 4410091187877

Option 3 ID : 4410091187876

Option 4 ID : 4410091187874

Status : Answered

Chosen Option : 4

Q.3  
8 "ਜਿਹੜਾ ਗਰਜਦਾ ਹੈ, ਉਹ ਬਰਸਦਾ ਨਹੀਂ" ਅਖਾਣ ਦਾ ਕੀ ਅਰਥ ਹੈ?

- Ans
- 1. ਮੌਸਮ ਦਾ ਅਨੁਮਾਨ ਲਗਾਉਣਾ ਮੁਸ਼ਕਲ ਹੈ
  - 2. ਕੁਦਰਤ ਦੇ ਨਿਯਮ ਅਟੱਲ ਹਨ
  - 3. ਬਾਰਸ਼ ਹਮੇਸ਼ਾ ਗਰਜ ਤੋਂ ਬਾਅਦ ਹੁੰਦੀ ਹੈ
  - 4. ਜੇ ਜ਼ਿਆਦਾ ਗੱਲਾਂ ਕਰਦੇ ਹਨ, ਉਹ ਘੱਟ ਕੰਮ ਕਰਦੇ ਹਨ

Question ID : 441009298456

Option 1 ID : 4410091160890

Option 2 ID : 4410091160893

Option 3 ID : 4410091160892

Option 4 ID : 4410091160891

Status : Answered

Chosen Option : 4

Q.3  
9 ਹੇਠ ਲਿਖਿਆਂ ਵਿੱਚੋਂ ਕਿਹੜਾ ਸ਼ਬਦ "ਸੁ" ਅਗੇਤਰ ਨਾਲ ਬਣਿਆ ਹੈ?

- Ans
- 1. ਚੱਜਾ
  - 2. ਅਚੱਜਾ
  - 3. ਚੰਗਾ
  - 4. ਸੁਚੱਜਾ

Question ID : 441009302737

Option 1 ID : 4410091177816

Option 2 ID : 4410091177817

Option 3 ID : 4410091177819

Option 4 ID : 4410091177818

Status : Answered

Chosen Option : 4

Q.4  
0 ਹੇਠਲੇ ਵਿੱਚੋਂ ਕਿਹੜਾ ਵਾਕ ਵਿਆਕਰਣਿਕ ਤੌਰ 'ਤੇ ਸਹੀ ਹੈ?

- Ans
- 1. ਮੇਰਾ ਭਰਾ ਸਕੂਲ ਜਾਂਦੇ ਹਨ।
  - 2. ਮੇਰਾ ਭਰਾ ਸਕੂਲ ਜਾਂਦੀਆਂ ਹਨ।
  - 3. ਮੇਰਾ ਭਰਾ ਸਕੂਲ ਜਾਂਦੀ ਹੈ।
  - 4. ਮੇਰਾ ਭਰਾ ਸਕੂਲ ਜਾਂਦਾ ਹੈ।

Question ID : 441009298605

Option 1 ID : 4410091161472

Option 2 ID : 4410091161471

Option 3 ID : 4410091161470

Option 4 ID : 4410091161473

Status : Answered

Chosen Option : 4

Q.4 ਜਿੱਥੇ ਪਈ ਫੁੱਟ ਉੱਥੇ ਪਈ \_\_\_\_।-ਅਖਾਣ ਪੂਰਾ ਕਰਨ ਲਈ ਸਹੀ ਸ਼ਬਦ ਚੁਣੋ।

Ans ✗ 1. ਗੁੱਟ

✓ 2. ਲੁੱਟ

✗ 3. ਕੁੱਟ

✗ 4. ਛੁੱਟ

Question ID : 441009328480

Option 1 ID : 4410091280388

Option 2 ID : 4410091280387

Option 3 ID : 4410091280386

Option 4 ID : 4410091280389

Status : Answered

Chosen Option : 4

Q.4 What does "to play devil's advocate" mean in Punjabi?

2

Ans ✗ 1. ਖਤਰਨਾਕ ਖੇਡ ਖੇਡਣਾ

✓ 2. ਜਾਣਬੁੱਝ ਕੇ ਵਿਰੋਧੀ ਦਲੀਲ ਦੇਣੀ

✗ 3. ਕਿਸੇ ਦੀ ਮਦਦ ਕਰਨਾ

✗ 4. ਸੈਤਾਨ ਦੀ ਵਕਾਲਤ ਕਰਨਾ

Question ID : 441009306747

Option 1 ID : 4410091193686

Option 2 ID : 4410091193684

Option 3 ID : 4410091193685

Option 4 ID : 4410091193683

Status : Answered

Chosen Option : 4

Q.4 ਦਿੱਤੇ ਗਏ ਬਹੁਤੇ ਸ਼ਬਦਾਂ ਦੀ ਥਾਂ ਇੱਕ ਸ਼ਬਦ ਲਈ ਢੁਕਵਾਂ ਵਿਕਲਪ ਚੁਣੋ।

ਜਿਰਜ਼ਾ ਪ੍ਰਮਾਤਮਾ ਨੂੰ ਮੰਨਦਾ ਹੈ

Ans ✗ 1. ਦਰਸ਼ਕ

✗ 2. ਨਾਸਤਕ

✗ 3. ਦਤਕ

✓ 4. ਆਸਤਕ

Question ID : 441009333944

Option 1 ID : 4410091301724

Option 2 ID : 4410091301721

Option 3 ID : 4410091301723

Option 4 ID : 4410091301722

Status : Answered

Chosen Option : 4

Q.4 ੧੯੯ ਨੂੰ ਕੀ ਕਿਹਾ ਜਾਂਦਾ ਹੈ:

- Ans
- 1. ਇੱਕ ਸੌ ਅਠਾਣਵੇਂ
  - 2. ਇੱਕ ਸੋ ਅਠਾਣਵੇਂ
  - 3. ਇੱਕ ਸੌ ਅਠਾਣਵੇਂ
  - 4. ਇੱਕ ਸੋ ਅਠਾਣਵੇਂ

Question ID : 441009287227

Option 1 ID : 4410091115855

Option 2 ID : 4410091115854

Option 3 ID : 4410091115852

Option 4 ID : 4410091115853

Status : Answered

Chosen Option : 3

Q.4 ਹੇਠ ਲਿਖਿਆਂ ਵਿੱਚੋਂ ਕਿਹੜੀ ਕਿਸਮ ਕਿਰਿਆ-ਵਿਸ਼ੇਸ਼ਣ ਦੀ ਨਹੀਂ ਹੈ?

- Ans
- 1. ਪੁਰਖ-ਵਾਚਕ ਕਿਰਿਆ ਵਿਸ਼ੇਸ਼ਣ
  - 2. ਸਥਾਨ-ਵਾਚਕ ਕਿਰਿਆ ਵਿਸ਼ੇਸ਼ਣ
  - 3. ਕਾਲ-ਵਾਚਕ ਕਿਰਿਆ ਵਿਸ਼ੇਸ਼ਣ
  - 4. ਸੰਖਿਆ-ਵਾਚਕ ਕਿਰਿਆ ਵਿਸ਼ੇਸ਼ਣ

Question ID : 441009274709

Option 1 ID : 4410091067119

Option 2 ID : 4410091067118

Option 3 ID : 4410091067117

Option 4 ID : 4410091067120

Status : Answered

Chosen Option : 2

Q.4 ਸਹੀ ਵਾਕ ਦੀ ਚੋਣ ਕਰੋ:

- Ans
- 1. ਰਾਹ ਪਯਾ ਜਾਣੀਏ ਜਾਂ ਵਾਹ ਪਯਾ ਜਾਣੀਏ।
  - 2. ਰਾਹ ਪਿਆ ਜਾਣੀਏ ਜਾਂ ਵਾਹ ਪਿਆ ਜਾਣੀਏ।
  - 3. ਰਾਹ ਪਇਆ ਜਾਣੀਏ ਜਾਂ ਵਾਹ ਪਇਆ ਜਾਣੀਏ।
  - 4. ਰਾਹ ਪੀਆ ਜਾਣੀਏ ਜਾਂ ਵਾਹ ਪੀਆ ਜਾਣੀਏ।

Question ID : 441009327023

Option 1 ID : 4410091274453

Option 2 ID : 4410091274452

Option 3 ID : 4410091274455

Option 4 ID : 4410091274454

Status : Answered

Chosen Option : 3

Q.4 "ਨਿਰਾਸ਼ਾ" ਸ਼ਬਦ ਵਿੱਚ ਅਗੇਤਰ ਅਤੇ ਪਿਛੇਤਰ ਕਿਹੜੇ ਹਨ?  
7

Ans ✓ 1. 'ਨਿਰ' ਅਗੇਤਰ, 'ਆ' ਪਿਛੇਤਰ

✗ 2. 'ਨਿਰ' ਅਗੇਤਰ, 'ਆਸ਼ਾ' ਪਿਛੇਤਰ

✗ 3. 'ਨਿਰਾ' ਅਗੇਤਰ, 'ਸ਼ਾ' ਪਿਛੇਤਰ

✗ 4. 'ਨਿ' ਅਗੇਤਰ, 'ਆ' ਪਿਛੇਤਰ

Question ID : 441009294129

Option 1 ID : 4410091143492

Option 2 ID : 4410091143494

Option 3 ID : 4410091143493

Option 4 ID : 4410091143491

Status : Answered

Chosen Option : 1

Q.4 ਅੰਗਰੇਜ਼ੀ ਵਿੱਚ ਦਿੱਤੇ ਸ਼ਬਦ ਦਾ ਪੰਜਾਬੀ ਵਿੱਚ ਅਨੁਵਾਦ ਕਰੋ।  
8

Resurgence

Ans ✗ 1. ਮੁੜ-ਜੀਵਤ

✗ 2. ਪੁਨਰਜਨਮ

✓ 3. ਪੁਨਰ-ਉਥਾਨ

✗ 4. ਮੁੜ-ਵਿਚਾਰ

Question ID : 441009308849

Option 1 ID : 4410091202054

Option 2 ID : 4410091202053

Option 3 ID : 4410091202052

Option 4 ID : 4410091202055

Status : Answered

Chosen Option : 3

Q.4 ਦਿੱਤੇ ਗਏ ਸ਼ਬਦ ਦਾ ਸਭ ਤੋਂ ਢੁਕਵਾਂ ਸਮਾਨਾਰਥਕ ਸ਼ਬਦ ਚੁਣੋ।  
9

ਡਰਪੇਕ

Ans ✗ 1. ਬਹਾਦਰ

✗ 2. ਨਿਡਰ

✗ 3. ਸੁਰਵੀਰ

✓ 4. ਡਰਾਕਲ

Question ID : 441009324840

Option 1 ID : 4410091265637

Option 2 ID : 4410091265635

Option 3 ID : 4410091265638

Option 4 ID : 4410091265636

Status : Answered

Chosen Option : 4

Test

Prime

By Adda247

# Previous Year Papers PDF

PRACTICE MORE, SCORE HIGHER!



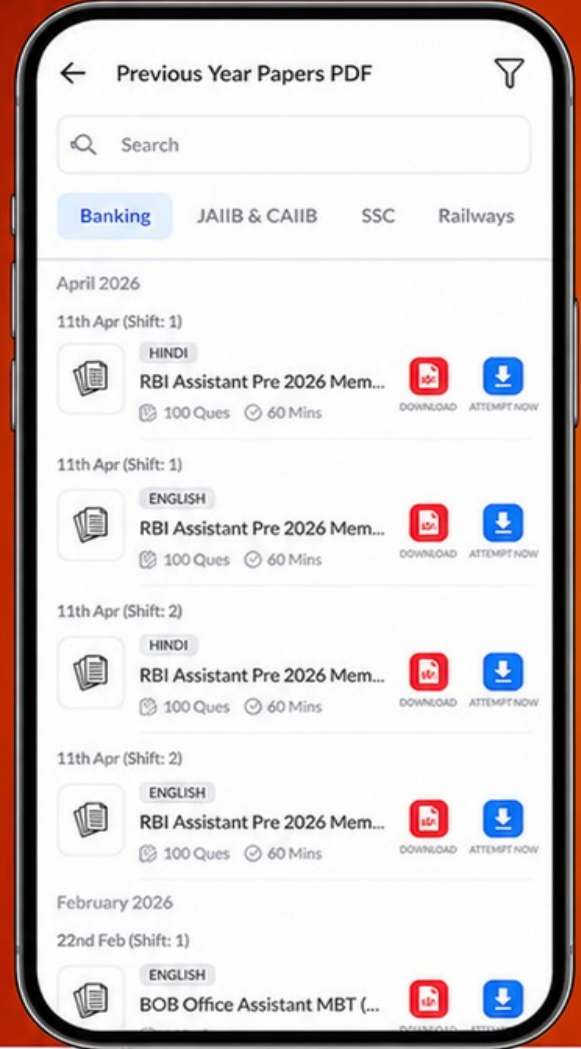
Free  
**25,000+**  
PDF's

High-Quality | Exam-Wise | Updated Regularly

ATTEMPT AS  
**MOCK**



Turn PDFs into real exam experience.  
Analyze. Improve. Succeed.



Topic-wise & Exam-wise PDFs



Download & Study Offline



Attempt as Mock & Track Score



Smart Analysis & Performance

AVAILABLE IN



Banking



SSC



Railway



Teaching



UGC



Agriculture



Nursing



Bihar



UP



Punjab



WB



Odisha



TN



AP & Telangana



Haryana



DOWNLOAD THE APP



Q.5 "ਤੇਲੀ" ਸ਼ਬਦ ਦਾ ਲਿੰਗ ਬਦਲ ਕੇ ਕੀ ਬਣੇਗਾ?

- Ans
- 1. ਤੇਲਾਂ
  - 2. ਤੇਲੀ
  - 3. ਤੇਲਣ
  - 4. ਤੇਲਕਾ

Question ID : 441009326811

Option 1 ID : 4410091273614

Option 2 ID : 4410091273613

Option 3 ID : 4410091273615

Option 4 ID : 4410091273612

Status : Answered

Chosen Option : 3

