



PUNJAB POLICE

Police to its last particle is duty

Exam Name	Punjab Police Constable in District and Armed Cadre 4th May to 18th June 2025
Registration Number	
Roll No	
Applicant Name	
Exam Date	22/05/2025
Exam Shift	2:00 PM - 5:00 PM
Subject	CONSTABLE IN DISTRICT AND ARMED CADRE OF PUNJAB POLICE PAPER I AND PAPER II
Candidate Application Photograph	
Candidate Exam Day Photograph	

Section : General Awareness

**Test
Prime**

By Adda247

ALL EXAMS, ONE SUBSCRIPTION



Test. Analyze. Improve. Repeat.



Don't just prepare. Perform.

Test Prime — built only for mock tests.



1,50,000+
Mock Tests



25,000+
Previous Year Papers



800+
Exam Covered



500% Refund
on Selection



5 lakh+
Free Quizzes



Daily
Free PDFs



Job Alerts
Stay Updated

- Multilingual
- Detailed Solution
- Strong and Weak Areas



**All India
Rankings**

Compete with lakhs.
Rank. Improve. Repeat.



← Adda247 test prime

Rating ▾

Editors' choice

New



Adda247 Test Prime
Adda Education • Education
Installed



DOWNLOAD THE APP



Q.1 ਕੇਂਦਰੀ ਬਜਟ 2025-26 ਵਿੱਚ, OBC ਵਿਦਿਆਰਥੀਆਂ ਲਈ ਰਾਸ਼ਟਰੀ ਫੈਲੋਸ਼ਿਪ ਲਈ ਅਲਾਟਮੈਂਟ ਵਿੱਚ ਪਿਛਲੇ ਸਾਲ ਦੇ ਮੁਕਾਬਲੇ ਕਿੰਨੇ ਪ੍ਰਤੀਸ਼ਤ ਦਾ ਵਾਧਾ ਹੋਇਆ ਹੈ?

- Ans
- 1. 245%
 - 2. 300%
 - 3. 190%
 - 4. 145%

Question ID : 441009126714

Option 1 ID : 441009503534

Option 2 ID : 441009503535

Option 3 ID : 441009503533

Option 4 ID : 441009503532

Status : Not Attempted and Marked For Review

Chosen Option : --

Q.2 ਪੰਜਾਬ ਦੇ ਸਿੰਧ-ਸਾਗਰ ਦੁਆਬਾ ਖੇਤਰ ਵਿੱਚ ਕਿਹੜੀ ਭੂਗੋਲਿਕ ਵਿਸ਼ੇਸ਼ਤਾ ਮੁੱਖ ਤੌਰ 'ਤੇ ਪਾਈ ਜਾਂਦੀ ਹੈ?

- Ans
- 1. ਜਲਗਾਹ ਅਤੇ ਦਲਦਲੀ ਜ਼ਮੀਨਾਂ
 - 2. ਸੰਘਣੇ ਜੰਗਲ
 - 3. ਰੇਤ ਦੇ ਟਿੱਬੇ ਅਤੇ ਮਾਰੂਥਲ ਖੇਤਰ
 - 4. ਪਹਾੜੀ ਇਲਾਕਾ

Question ID : 441009100953

Option 1 ID : 441009401825

Option 2 ID : 441009401822

Option 3 ID : 441009401824

Option 4 ID : 441009401823

Status : Answered

Chosen Option : 2

Q.3 ਰਾਜ ਸਭਾ ਵਿੱਚ ਸੀਟਾਂ ਦੀ ਵੰਡ ਭਾਰਤੀ ਸੰਵਿਧਾਨ ਦੀ ਕਿਸ ਅਨੁਸੂਚੀ ਵਿੱਚ ਦੱਸੀ ਗਈ ਹੈ?

- Ans
- 1. 3^{ਵੀਂ} ਅਨੁਸੂਚੀ
 - 2. 6^{ਵੀਂ} ਅਨੁਸੂਚੀ
 - 3. 5^{ਵੀਂ} ਅਨੁਸੂਚੀ
 - 4. 4^{ਵੀਂ} ਅਨੁਸੂਚੀ

Question ID : 441009171053

Option 1 ID : 441009677117

Option 2 ID : 441009677120

Option 3 ID : 441009677119

Option 4 ID : 441009677118

Status : Answered

Chosen Option : 4

Q.4 ਮੁਕਾਬਲੇ ਦੌਰਾਨ ਸਰਵੋਤਮ ਪ੍ਰਦਰਸ਼ਨ ਨੂੰ ਬਣਾਈ ਰੱਖਣ ਅਤੇ ਨਿਰਜਲੀਕਰਨ (dehydration) ਨੂੰ ਰੋਕਣ ਲਈ ਹੇਠ ਲਿਖਿਆਂ ਵਿੱਚੋਂ ਕਿਹੜਾ/ਕਿਹੜੇ ਕਥਨ ਸਹੀ ਹੈ/ਹਨ?

- A. ਖਿਡਾਰੀਆਂ ਨੂੰ ਮੁਕਾਬਲੇ ਤੋਂ 15-20 ਮਿੰਟ ਪਹਿਲਾਂ ਪਾਣੀ ਪੀਣਾ ਚਾਹੀਦਾ ਹੈ।
- B. ਖਿਡਾਰੀਆਂ ਨੂੰ ਨਿਯਮਤ ਅੰਤਰਾਲਾਂ 'ਤੇ ਪਾਣੀ ਪੀਣਾ ਚਾਹੀਦਾ ਹੈ।
- C. ਖਿਡਾਰੀਆਂ ਨੂੰ ਇਲੈਕਟ੍ਰੋਲਾਈਟ ਨਾਲ ਭਰਪੂਰ ਪੀਣ ਵਾਲੇ ਪਦਾਰਥ ਪੀਣੇ ਚਾਹੀਦੇ ਹਨ।

- Ans
- 1. ਸਿਰਫ A ਅਤੇ C
 - 2. ਸਿਰਫ A ਅਤੇ B
 - 3. ਸਿਰਫ B ਅਤੇ C
 - 4. A, B ਅਤੇ C

Question ID :	441009145459
Option 1 ID :	441009577774
Option 2 ID :	441009577773
Option 3 ID :	441009577772
Option 4 ID :	441009577771
Status :	Answered
Chosen Option :	3

Q.5 ਪੰਜਾਬ ਕੁਮਾਰ ਗੋਇਲ, ਜਿਨ੍ਹਾਂ ਨੂੰ 2024 ਦਾ ਰਾਸ਼ਟਰੀ ਅਧਿਆਪਕ ਪੁਰਸਕਾਰ ਮਿਲਿਆ ਸੀ, ਜੋ ਕਿ ਇੱਕ ਅਧਿਆਪਕ ਹਨ, ਪੰਜਾਬ ਦੇ ਕਿਹੜੇ ਸਥਾਨ 'ਤੇ ਪੜ੍ਹਾਉਂਦੇ ਹਨ?

- Ans
- 1. ਫਰੀਦਕੋਟ
 - 2. ਬਰਨਾਲਾ
 - 3. ਰੂਪਨਗਰ
 - 4. ਫਿਰੋਜ਼ਪੁਰ

Question ID :	441009114288
Option 1 ID :	441009454616
Option 2 ID :	441009454615
Option 3 ID :	441009454617
Option 4 ID :	441009454614
Status :	Answered
Chosen Option :	2

Q.6 ਸ਼੍ਰੋਮਣੀ ਗੁਰਦੁਆਰਾ ਪ੍ਰਬੰਧਕ ਕਮੇਟੀ ਦੀ ਸਥਾਪਨਾ ਕਿਸ ਸਾਲ ਹੋਈ ਸੀ?

- Ans
- 1. 1925
 - 2. 1920
 - 3. 1921
 - 4. 1923

Question ID :	441009114809
Option 1 ID :	441009456643
Option 2 ID :	441009456640
Option 3 ID :	441009456641
Option 4 ID :	441009456642
Status :	Answered
Chosen Option :	1

Q.7 ਗੁਲਾਬੀ ਸੁੰਡੀ ਇੱਕ ਪ੍ਰਮੁੱਖ ਕੀਟ ਹੈ ਜੋ ਹੇਠ ਲਿਖਿਆਂ ਵਿੱਚੋਂ ਕਿਸ ਫਸਲ ਨੂੰ ਪ੍ਰਭਾਵਿਤ ਕਰਦਾ ਹੈ?

Ans 1. ਮੱਕੀ

2. ਚੌਲ

3. ਕਪਾਹ

4. ਕਣਕ

Question ID : 441009109244

Option 1 ID : 441009434703

Option 2 ID : 441009434702

Option 3 ID : 441009434701

Option 4 ID : 441009434700

Status : Answered

Chosen Option : 3

Q.8 2015 ਵਿੱਚ, ਭਾਰਤ ਸਰਕਾਰ ਦੁਆਰਾ 100 ਸਮਾਰਟ ਸ਼ਹਿਰਾਂ ਨੂੰ ਵਿਕਸਤ ਕਰਨ ਲਈ ਸਮਾਰਟ ਸਿਟੀਜ਼ ਮਿਸ਼ਨ ਸ਼ੁਰੂ ਕੀਤਾ ਗਿਆ ਸੀ। ਕਿਹੜੀ ਸੰਵਿਧਾਨਕ ਵਿਵਸਥਾ ਨਗਰ ਨਿਗਮਾਂ ਨੂੰ ਅਜਿਹੀਆਂ ਪਹਿਲਕਦਮੀਆਂ ਲਈ ਸ਼ਹਿਰੀ ਯੋਜਨਾਬੰਦੀ ਕਰਨ ਦਾ ਅਧਿਕਾਰ ਦਿੰਦੀ ਹੈ?

Ans 1. ਅਨੁਛੇਦ 243P

2. ਅਨੁਛੇਦ 243W

3. ਅਨੁਛੇਦ 243ZE

4. ਅਨੁਛੇਦ 243Q

Question ID : 441009121004

Option 1 ID : 441009481046

Option 2 ID : 441009481047

Option 3 ID : 441009481049

Option 4 ID : 441009481048

Status : Answered

Chosen Option : 1

Q.9 ਰਾਜ ਬਜਟ 2025 ਦੇ ਅਨੁਸਾਰ, ਪੰਜਾਬ ਦੇ ਸਾਰੇ ਪਰਿਵਾਰਾਂ ਲਈ ਨਵੀਂ ਸਿਹਤ ਬੀਮਾ ਕਵਰੇਜ ਧਨ ਰਾਸ਼ੀ ਕਿੰਨੀ ਹੈ?

Ans 1. ₹10 ਲੱਖ

2. ₹15 ਲੱਖ

3. ₹5 ਲੱਖ

4. ₹7 ਲੱਖ

Question ID : 441009130621

Option 1 ID : 441009519021

Option 2 ID : 441009519022

Option 3 ID : 441009519019

Option 4 ID : 441009519020

Status : Answered

Chosen Option : 1

Q.1 0 ਦਸੰਬਰ 2024 ਵਿੱਚ ਦੱਖਣ ਭਾਰਤੀ ਸਿੱਖਿਆ ਸਮਾਜ ਦੁਆਰਾ 'ਸ਼੍ਰੀ ਚੰਦਰਸ਼ੇਖਰੇਂਦਰ ਸਰਸਵਤੀ ਨੈਸ਼ਨਲ ਐਮੀਨੈਂਸ ਅਵਾਰਡ ਫਾਰ ਪਬਲਿਕ ਲੀਡਰਸ਼ਿਪ' ਨਾਲ ਕਿਸਨੂੰ ਸਨਮਾਨਿਤ ਕੀਤਾ ਗਿਆ ਸੀ?

- Ans
- 1. ਚੌਪਈ ਮੁਰਮੂ
 - 2. ਨਰਿੰਦਰ ਮੋਦੀ
 - 3. ਅਮਿਤ ਸ਼ਾਹ
 - 4. ਐਸ ਜੈਸ਼ੰਕਰ

Question ID : 441009116439

Option 1 ID : 441009463178

Option 2 ID : 441009463175

Option 3 ID : 441009463176

Option 4 ID : 441009463177

Status : Answered

Chosen Option : 1

Q.1 1 2024-25 ਵਿੱਚ ਸਾਉਣੀ ਦੇ ਸੀਜ਼ਨ ਦੌਰਾਨ, ਪੰਜਾਬ ਦੇ ਕਿਹੜੇ ਜ਼ਿਲ੍ਹੇ ਵਿੱਚ ਬਾਸਮਤੀ ਦੀ ਕਾਸ਼ਤ ਹੇਠ ਸਭ ਤੋਂ ਵੱਧ ਖੇਤਰਫਲ ਸੀ?

- Ans
- 1. ਅੰਮ੍ਰਿਤਸਰ
 - 2. ਜਲੰਧਰ
 - 3. ਬਠਿੰਡਾ
 - 4. ਲੁਧਿਆਣਾ

Question ID : 441009114022

Option 1 ID : 441009453550

Option 2 ID : 441009453553

Option 3 ID : 441009453552

Option 4 ID : 441009453551

Status : Answered

Chosen Option : 2

Q.1 2 ਪੰਜਾਬ ਵਿੱਚ 'ਮੋਬਾਈਲ ਲੈਬ ਸਕੀਮ' ਦਾ ਮੁੱਖ ਉਦੇਸ਼ ਕੀ ਹੈ?

- Ans
- 1. ਸਿਲੀਕੋਨਿਸ ਮਾਮਲਿਆਂ ਦੇ ਇਲਾਜ ਵਿੱਚ ਸਹਾਇਤਾ ਕਰਨਾ
 - 2. ਕਰਮਚਾਰੀਆਂ ਲਈ ਦੁਰਘਟਨਾ ਸੰਬੰਧੀ ਖਰਚਿਆਂ ਨੂੰ ਪੂਰਾ ਕਰਨਾ
 - 3. ਸਾਰੇ ਕਰਮਚਾਰੀਆਂ ਨੂੰ ਮੋਬਾਈਲ ਫੋਨ ਦੀ ਪੇਸ਼ਕਸ਼ ਕਰਨਾ
 - 4. ਹੁਨਰਮੰਦ ਕਰਮਚਾਰੀਆਂ ਲਈ ਸਿਖਲਾਈ ਪ੍ਰਦਾਨ ਕਰਨਾ

Question ID : 441009135835

Option 1 ID : 441009539831

Option 2 ID : 441009539833

Option 3 ID : 441009539832

Option 4 ID : 441009539830

Status : Answered

Chosen Option : 4

Q.1 ਨਿਆਂਇਕ ਪਦਕ੍ਰਮ (judicial hierarchy) ਦੇ ਸੰਦਰਭ ਵਿੱਚ, ਹੇਠਾਂ ਦਿੱਤੀਆਂ ਗਈਆਂ ਅਦਾਲਤਾਂ ਵਿੱਚੋਂ ਕਿਹੜੀ ਅਦਾਲਤ ਸਭ ਤੋਂ ਹੇਠਲੇ ਪੱਧਰ 'ਤੇ ਹੈ?

- Ans
- 1. ਸੁਪਰੀਮ ਕੋਰਟ
 - 2. ਤਾਲੁਕ ਅਦਾਲਤਾਂ
 - 3. ਹਾਈ ਕੋਰਟ
 - 4. ਜ਼ਿਲ੍ਹਾ ਅਦਾਲਤਾਂ

Question ID : 441009114159

Option 1 ID : 441009454098

Option 2 ID : 441009454100

Option 3 ID : 441009454099

Option 4 ID : 441009454101

Status : Answered

Chosen Option : 2

Q.1 38ਵੀਆਂ ਰਾਸ਼ਟਰੀ ਖੇਡਾਂ ਵਿੱਚ ਪੁਰਸ਼ਾਂ ਦੇ 50 m ਰਾਈਫਲ ਥ੍ਰੀ ਪੇਜੀਸ਼ਨ ਮੁਕਾਬਲੇ ਵਿੱਚ ਕਿਸਨੂੰ ਸੋਨ ਤਗਮਾ ਮਿਲਿਆ?

- Ans
- 1. ਪ੍ਰਾਂਸੂ ਰਾਠੌਰ
 - 2. ਐਸ਼ਵਰੀ ਪ੍ਰਤਾਪ ਸਿੰਘ
 - 3. ਸਵਪਨਿਲ ਕੁਮਾਰ
 - 4. ਨੀਰਜ ਕੁਮਾਰ

Question ID : 441009122133

Option 1 ID : 441009485489

Option 2 ID : 441009485488

Option 3 ID : 441009485487

Option 4 ID : 441009485486

Status : Answered

Chosen Option : 3

Q.1 ਹੇਠ ਲਿਖਿਆਂ ਵਿੱਚੋਂ ਕਿਹੜਾ ਪਹਿਲੇ ਦਰਜੇ ਦੀ ਸਿਹਤ ਸੰਭਾਲ ਵਿੱਚ 'ਅੰਤਰਖੇਤਰੀ ਸਹਿਯੋਗ' (intersectoral collaboration) ਦੀ ਇੱਕ ਉਦਾਹਰਣ ਹੈ?

- Ans
- 1. ਜੰਗਲਾਤ ਵਿਭਾਗ ਇੱਕ ਫਾਰਮਾਸਿਊਟੀਕਲ ਕੰਪਨੀ ਦੀ ਸਹਾਇਤਾ ਨਾਲ ਇੱਕ ਰੁੱਖ ਲਗਾਉਣ ਦੀ ਮੁਹਿੰਮ ਚਲਾਉਂਦਾ ਹੈ
 - 2. ਇੱਕ ਮਾਰਹ ਕਲੀਨਿਕ ਜੋ ਇੱਕ ਪੈਥੋਲੋਜੀ ਲੈਬ ਦੇ ਸਹਿਯੋਗ ਨਾਲ ਛੋਟ ਵਾਲੀਆਂ ਸਲਾਹਾਂ ਦੀ ਪੇਸ਼ਕਸ਼ ਕਰਦਾ ਹੈ
 - 3. ਸਰਕਾਰੀ ਦਫ਼ਤਰ ਸਥਾਨਕ ਸਿਹਤ ਕੇਂਦਰ ਦੀ ਸਹਾਇਤਾ ਨਾਲ ਪੇਸ਼ਣ ਸਿੱਖਿਆ ਸੈਸ਼ਨ ਕਰਵਾਉਂਦਾ ਹੈ
 - 4. ਇੱਕ ਹਸਪਤਾਲ ਸਾਲਾਨਾ ਸਮਾਗਮ ਦਾ ਪ੍ਰਬੰਧ ਕਰਨ ਲਈ ਇੱਕ ਇਵੈਂਟ ਮੈਨੇਜਮੈਂਟ ਕੰਪਨੀ ਨਾਲ ਸਹਿਯੋਗ ਕਰਦਾ ਹੈ

Question ID : 441009127767

Option 1 ID : 441009507695

Option 2 ID : 441009507696

Option 3 ID : 441009507693

Option 4 ID : 441009507694

Status : Answered

Chosen Option : 3

Q.1 6	ਵਿਟਾਮਿਨ B12 ਦੀ ਘਾਟ ਕਾਰਨ ਹੇਠ ਲਿਖੀਆਂ ਵਿੱਚੋਂ ਕਿਹੜੀ ਸਥਿਤੀ ਹੋ ਸਕਦੀ ਹੈ?
Ans	<input checked="" type="checkbox"/> 1. ਪੇਲਾਗਰਾ
	<input checked="" type="checkbox"/> 2. ਅਨੀਮੀਆ
	<input checked="" type="checkbox"/> 3. ਧੀਮਾ ਵਿਕਾਸ
	<input checked="" type="checkbox"/> 4. ਚਮੜੀ ਦੇ ਰੋਗ

Question ID :	441009113233
Option 1 ID :	441009450465
Option 2 ID :	441009450464
Option 3 ID :	441009450463
Option 4 ID :	441009450466
Status :	Answered
Chosen Option :	3

Q.1 7	ਜੇਕਰ ਰਾਜ ਸਭਾ ਦੇ ਨਿਯਮਤ ਪੀਠਾਸੀਨ (ਪ੍ਰਧਾਨਗੀ ਕਰਨ ਵਾਲੇ) ਅਧਿਕਾਰੀ ਉਪਲਬਧ ਨਹੀਂ ਹੁੰਦੇ, ਤਾਂ ਇਹਨਾਂ ਵਿੱਚੋਂ ਕੌਣ ਰਾਜ ਸਭਾ ਦੀਆਂ ਮੀਟਿੰਗਾਂ ਦੀ ਨਿਗਰਾਨੀ ਕਰਦਾ ਹੈ?
Ans	<input checked="" type="checkbox"/> 1. ਭਾਰਤ ਦੇ ਮੁੱਖ ਜੱਜ
	<input checked="" type="checkbox"/> 2. ਭਾਰਤ ਦੇ ਰਾਸ਼ਟਰਪਤੀ
	<input checked="" type="checkbox"/> 3. ਪ੍ਰਧਾਨ ਮੰਤਰੀ
	<input checked="" type="checkbox"/> 4. ਭਾਰਤ ਦੇ ਉਪ ਰਾਸ਼ਟਰਪਤੀ

Question ID :	441009105920
Option 1 ID :	441009421734
Option 2 ID :	441009421736
Option 3 ID :	441009421733
Option 4 ID :	441009421735
Status :	Answered
Chosen Option :	4

Q.1 8	73ਵੇਂ ਸੰਵਿਧਾਨ ਸੋਧ ਐਕਟ (ਪੰਚਾਇਤੀ ਰਾਜ) ਦੇ ਤਹਿਤ ਪੰਚਾਇਤ ਦਾ ਮੈਂਬਰ ਬਣਨ ਲਈ ਘੱਟੋ-ਘੱਟ ਉਮਰ ਕਿੰਨੀ ਨਿਰਧਾਰਤ ਕੀਤੀ ਗਈ ਹੈ?
Ans	<input checked="" type="checkbox"/> 1. 25 ਸਾਲ
	<input checked="" type="checkbox"/> 2. 19 ਸਾਲ
	<input checked="" type="checkbox"/> 3. 20 ਸਾਲ
	<input checked="" type="checkbox"/> 4. 21 ਸਾਲ

Question ID :	441009164884
Option 1 ID :	441009653176
Option 2 ID :	441009653173
Option 3 ID :	441009653174
Option 4 ID :	441009653175
Status :	Answered
Chosen Option :	1

Q.1 9 ਖੁਰਾਕ ਯੋਜਨਾਬੰਦੀ ਵਿੱਚ ਭੋਜਨ ਦੀਆਂ ਤਰਜੀਹਾਂ (food preferences) ਨੂੰ ਪ੍ਰਭਾਵਿਤ ਕਰਨ ਵਾਲੇ ਕਾਰਕਾਂ ਵਿੱਚ ਹੇਠ ਲਿਖਿਆਂ ਵਿੱਚੋਂ ਕੀ ਸ਼ਾਮਲ ਹੁੰਦਾ ਹੈ?

- Ans
- 1. ਵਿਅਕਤੀਗਤ ਪਸੰਦ/ਨਾਪਸੰਦ
 - 2. ਮੌਸਮ ਦੀ ਭਵਿੱਖਬਾਣੀ
 - 3. ਵਾਲਾਂ ਦਾ ਰੰਗ
 - 4. ਸਰਕਾਰੀ ਨੀਤੀਆਂ

Question ID : 441009141432

Option 1 ID : 441009561929

Option 2 ID : 441009561928

Option 3 ID : 441009561931

Option 4 ID : 441009561930

Status : Answered

Chosen Option : 4

Q.2 0 ਪੰਜਾਬ ਦੇ ਆਰਥਿਕ ਉਤਪਾਦਨ ਵਿੱਚ ਸੇਵਾਵਾਂ (services) ਦੇ ਖੇਤਰ ਦੀ ਭੂਮਿਕਾ ਨੂੰ ਇਹਨਾਂ ਵਿੱਚੋਂ ਕਿਹੜਾ ਸਭ ਤੋਂ ਵਧੀਆ ਢੰਗ ਨਾਲ ਦਰਸਾਉਂਦਾ ਹੈ?

- Ans
- 1. ਸੇਵਾਵਾਂ ਦੇ ਖੇਤਰ ਦੇ ਵਾਧੇ ਕਾਰਨ ਉਦਯੋਗਿਕ ਵਿਕਾਸ ਹੌਲੀ ਹੋ ਗਿਆ ਹੈ।
 - 2. ਸੇਵਾਵਾਂ ਦੇ ਖੇਤਰ ਨੇ ਮੁੱਖ ਰੁਜ਼ਗਾਰਦਾਤਾ ਵਜੋਂ ਖੇਤੀਬਾੜੀ ਦੀ ਪੂਰੀ ਤਰ੍ਹਾਂ ਥਾਂ ਲੈ ਲਈ ਹੈ।
 - 3. ਪੰਜਾਬ ਪੂਰੀ ਤਰ੍ਹਾਂ ਖੇਤੀਬਾੜੀ ਪ੍ਰਧਾਨ ਅਰਥਵਿਵਸਥਾ ਤੋਂ ਦੂਰ ਹੋ ਗਿਆ ਹੈ, ਇਸ ਲਈ ਸੇਵਾਵਾਂ ਦੇ ਖੇਤਰ ਦਾ ਹਿੱਸਾ ਵਧਿਆ ਹੈ।
 - 4. ਸੇਵਾਵਾਂ ਦਾ ਖੇਤਰ ਸਥਿਰ ਰਿਹਾ ਹੈ, ਜਦੋਂ ਕਿ ਖੇਤੀਬਾੜੀ ਦਾ ਦਬਦਬਾ ਬਣਿਆ ਹੋਇਆ ਹੈ।

Question ID : 441009141756

Option 1 ID : 441009563211

Option 2 ID : 441009563210

Option 3 ID : 441009563209

Option 4 ID : 441009563208

Status : Answered

Chosen Option : 4

Q.2 1 ਭਾਰਤੀ ਸੰਵਿਧਾਨ ਦੀ ਕਿਹੜੀ ਅਨੁਸੂਚੀ ਸੰਘ ਅਤੇ ਰਾਜਾਂ ਵਿਚਕਾਰ ਸ਼ਕਤੀਆਂ ਦੀ ਵੰਡ ਨਾਲ ਸੰਬੰਧਿਤ ਹੈ?

- Ans
- 1. 8^{ਵੀਂ} ਅਨੁਸੂਚੀ
 - 2. 10^{ਵੀਂ} ਅਨੁਸੂਚੀ
 - 3. 7^{ਵੀਂ} ਅਨੁਸੂਚੀ
 - 4. 6^{ਵੀਂ} ਅਨੁਸੂਚੀ

Question ID : 441009171034

Option 1 ID : 441009677043

Option 2 ID : 441009677044

Option 3 ID : 441009677041

Option 4 ID : 441009677042

Status : Answered

Chosen Option : 3

Q.2 2025 ਵਿੱਚ, ISRO ਨੇ NASA ਨਾਲ ਮਿਲ ਕੇ ਡੁਅਲ-ਫ੍ਰੀਕੁਐਂਸੀ ਸਿੰਥੈਟਿਕ ਅਪਰਚਰ ਰਾਡਾਰ ਨਾਲ ਲੈਸ ਇੱਕ ਉਪਗ੍ਰਹਿ 'NISAR' ਲਾਂਚ ਕੀਤਾ। NISAR ਮਿਸ਼ਨ ਦਾ ਮੁੱਖ ਉਦੇਸ਼ ਕੀ ਹੈ?

- Ans
- 1. ਚੰਦਰਮਾ ਦੀ ਸਤ੍ਹਾ ਦਾ ਨਕਸ਼ਾ ਬਣਾਉਣਾ
 - 2. ਧਰਤੀ ਦੀਆਂ ਵਾਤਾਵਰਣ-ਪ੍ਰਣਾਲੀਆਂ, ਬਰਫ਼ ਦੇ ਪੁੰਜ ਅਤੇ ਕੁਦਰਤੀ ਖ਼ਤਰਿਆਂ ਦੀ ਨਿਗਰਾਨੀ ਕਰਨਾ
 - 3. ਬਾਹਰੀ ਗ੍ਰਹਿਆਂ ਦਾ ਅਧਿਐਨ ਕਰਨਾ
 - 4. ਸੂਰਜੀ ਫਲੇਅਰਾਂ ਦਾ ਨਿਰੀਖਣ ਕਰਨਾ

Question ID : 441009128937

Option 1 ID : 441009512366

Option 2 ID : 441009512364

Option 3 ID : 441009512363

Option 4 ID : 441009512365

Status : Answered

Chosen Option : 1

Q.2 2025 ਵਿੱਚ ਐਲਾਨੀ ਗਈ ਪੰਜਾਬ ਵਿੱਚ NCDC ਰਾਜ ਸ਼ਾਖਾ ਦੀ ਸਥਾਪਨਾ ਦਾ ਕੀ ਉਦੇਸ਼ ਹੈ?

- Ans
- 1. ਮੈਡੀਕਲ ਟੂਰਿਜ਼ਮ ਨੂੰ ਉਤਸ਼ਾਹਿਤ ਕਰਨਾ
 - 2. ਬਿਮਾਰੀ ਨਿਗਰਾਨੀ ਨੂੰ ਬਿਹਤਰ ਬਣਾਉਣਾ
 - 3. ਨਵੇਂ ਹਸਪਤਾਲ ਬਣਾਉਣਾ
 - 4. ਮੁਫ਼ਤ ਦਵਾਈਆਂ ਪ੍ਰਦਾਨ ਕਰਨਾ

Question ID : 441009130649

Option 1 ID : 441009519133

Option 2 ID : 441009519136

Option 3 ID : 441009519134

Option 4 ID : 441009519135

Status : Answered

Chosen Option : 1

Q.2 ਹੇਠ ਲਿਖਿਆਂ ਵਿੱਚੋਂ ਕਿਹੜਾ ਅਨੁਛੇਦ ਐਲਾਨ ਕਰਦਾ ਹੈ ਕਿ ਮੌਲਿਕ ਅਧਿਕਾਰਾਂ ਨਾਲ ਮੇਲ ਨਾ ਖਾਣ ਵਾਲੇ ਕਾਨੂੰਨ ਅਵੈਧ (void) ਹਨ?

- Ans
- 1. ਅਨੁਛੇਦ 13
 - 2. ਅਨੁਛੇਦ 15
 - 3. ਅਨੁਛੇਦ 12
 - 4. ਅਨੁਛੇਦ 14

Question ID : 441009170793

Option 1 ID : 441009676091

Option 2 ID : 441009676093

Option 3 ID : 441009676090

Option 4 ID : 441009676092

Status : Answered

Chosen Option : 3

Q.2 2024 ਵਿੱਚ 100 ਤੋਂ ਉੱਪਰ ਦੇ PM2.5 ਦੇ ਪੱਧਰ ਦੇ ਨਾਲ, ਪੰਜਾਬ ਦੇ ਮੁੱਲਾਂਪੁਰ ਨੂੰ IQAir ਦੀ ਵਿਸ਼ਵ ਹਵਾ ਗੁਣਵੱਤਾ ਰਿਪੋਰਟ
5 2024 ਦੁਆਰਾ ਸਭ ਤੋਂ ਵੱਧ ਪ੍ਰਦੂਸ਼ਿਤ ਵਿਸ਼ਵ-ਵਿਆਪੀ ਸ਼ਹਿਰਾਂ ਵਿੱਚੋਂ ਕਿਸ ਸਥਾਨ 'ਤੇ ਰੱਖਿਆ ਗਿਆ ਸੀ?

- Ans
- 1. ਪਹਿਲੇ
 - 2. ਚੌਥੇ
 - 3. ਦੂਜੇ
 - 4. ਤੀਜੇ

Question ID : 441009113951

Option 1 ID : 441009453282

Option 2 ID : 441009453285

Option 3 ID : 441009453283

Option 4 ID : 441009453284

Status : Answered

Chosen Option : 4

Q.2 ਦਹਾਕਿਆਂ ਤੋਂ ਕੋਸ਼ਿਸ਼ਾਂ ਦੇ ਬਾਵਜੂਦ, ਭਾਰਤ ਵਿੱਚ ਅਨੀਮੀਆ ਵੱਡੇ ਪੱਧਰ 'ਤੇ ਹਾਲੇ ਵੀ ਮੌਜੂਦ ਹੈ। ਅਨੀਮੀਆ ਦੀ ਲਗਾਤਾਰ ਉੱਚ
6 ਵਿਆਪਕਤਾ ਦਾ ਸਭ ਤੋਂ ਘੱਟ ਸੰਭਾਵਿਤ ਕਾਰਨ ਕਿਹੜਾ ਹੈ?

- Ans
- 1. ਗਰਭਵਤੀ ਔਰਤਾਂ ਵਿੱਚ ਆਇਰਨ ਫੋਲਿਕ ਐਸਿਡ ਦੇ ਪੂਰਕ ਪ੍ਰੋਗਰਾਮਾਂ ਦੀ ਨਾਕਾਫੀ ਕਵਰੇਜ
 - 2. ਫਾਈਟੇਟਸ (phytates) ਅਤੇ ਪੌਲੀਫੇਨੌਲ (polyphenols) ਦੇ ਕਾਰਨ ਪੌਦਿਆਂ-ਅਧਾਰਿਤ ਖੁਰਾਕਾਂ ਤੋਂ ਆਇਰਨ ਦੀ ਘੱਟ ਜੈਵਿਕ ਉਪਲਬਧਤਾ
 - 3. ਜਨਤਕ ਵੰਡ ਪ੍ਰਣਾਲੀ ਵਿੱਚ ਆਇਰਨ ਫੋਰਟੀਫਾਇਡ ਚੌਲਾਂ ਅਤੇ ਕਣਕ 'ਤੇ ਜ਼ਿਆਦਾ ਨਿਰਭਰਤਾ
 - 4. ਮਾਹਵਾਰੀ ਵਿਕਾਰਾਂ ਕਾਰਨ ਔਰਤਾਂ ਵਿੱਚ ਬਹੁਤ ਜ਼ਿਆਦਾ ਆਇਰਨ ਦਾ ਨਿਕਾਸ

Question ID : 441009160120

Option 1 ID : 441009634779

Option 2 ID : 441009634778

Option 3 ID : 441009634780

Option 4 ID : 441009634781

Status : Answered

Chosen Option : 4

Q.2 ਸਧਾਰਨ ਕਾਰਬੋਹਾਈਡਰੇਟ ਨੂੰ ਹੋਰ ਕਿਸ ਨਾਂ ਨਾਲ ਜਾਣਿਆ ਜਾਂਦਾ ਹੈ?
7

- Ans
- 1. ਡੀਸੈਕਰਾਈਡਜ਼ (disaccharides)
 - 2. ਓਲੀਗੋਸੈਕਰਾਈਡਜ਼ (oligosaccharides)
 - 3. ਮੋਨੋਸੈਕਰਾਈਡਜ਼ (monosaccharides)
 - 4. ਪੌਲੀਸੈਕਰਾਈਡਜ਼ (polysaccharides)

Question ID : 441009133690

Option 1 ID : 441009531510

Option 2 ID : 441009531509

Option 3 ID : 441009531507

Option 4 ID : 441009531508

Status : Answered

Chosen Option : 3

Q.2 ਸੂਰਜੀ ਊਰਜਾ ਨੂੰ ਉੱਨਤ ਕਰਨ ਅਤੇ ਕਾਰਬਨ ਨਿਕਾਸੀ ਘਟਾਉਣ ਦੀ ਪਹਿਲਕਦਮੀ ਦਾ ਨਾਂ ਕੀ ਹੈ, ਜੋ ਮਾਰਚ 2025 ਤੱਕ ਦਸ ਲੱਖ ਦੇ ਟੀਚੇ ਨੂੰ ਪਾਰ ਕਰ ਚੁੱਕੀ ਹੈ?

- Ans
- 1. ਜਲ ਜੀਵਨ ਮਿਸ਼ਨ
 - 2. ਸਵੱਛ ਭਾਰਤ ਮਿਸ਼ਨ
 - 3. PM ਸੂਰਯਾ ਘਰ
 - 4. ਡਿਜੀਟਲ ਇੰਡੀਆ ਮਿਸ਼ਨ

Question ID : 441009120917

Option 1 ID : 441009480698

Option 2 ID : 441009480699

Option 3 ID : 441009480701

Option 4 ID : 441009480700

Status : Answered

Chosen Option : 3

Q.2 ਕਿਸ ਪੰਜਾਬੀ ਕ੍ਰਾਂਤੀਕਾਰੀ ਨੇ 'ਇਨਕਲਾਬ ਜ਼ਿੰਦਾਬਾਦ' ਦੇ ਨਾਅਰੇ ਨੂੰ ਮਸ਼ਹੂਰ ਕਰ ਦਿੱਤਾ?

- Ans
- 1. ਊਧਮ ਸਿੰਘ
 - 2. ਫਜਲ-ਏ-ਹੁਸਨ
 - 3. ਭਗਤ ਸਿੰਘ
 - 4. ਸੋਹਣ ਸਿੰਘ ਭਕਨਾ

Question ID : 441009106430

Option 1 ID : 441009423735

Option 2 ID : 441009423736

Option 3 ID : 441009423737

Option 4 ID : 441009423738

Status : Answered

Chosen Option : 1

Q.3 ਪੰਚਾਇਤਾਂ ਦੀਆਂ ਚੋਣਾਂ ਕਰਵਾਉਣ ਲਈ ਕੌਣ ਜ਼ਿੰਮੇਵਾਰ ਹੈ?

- Ans
- 1. ਜ਼ਿਲ੍ਹਾ ਕੁਲੈਕਟਰ
 - 2. ਰਾਜ ਚੋਣ ਕਮਿਸ਼ਨ
 - 3. ਰਾਜਪਾਲ
 - 4. ਕੇਂਦਰੀ ਚੋਣ ਕਮਿਸ਼ਨ

Question ID : 441009189603

Option 1 ID : 441009747693

Option 2 ID : 441009747691

Option 3 ID : 441009747694

Option 4 ID : 441009747692

Status : Answered

Chosen Option : 2

Q.3 ਭਾਰਤ ਦੇ ਸੰਵਿਧਾਨ ਦਾ ਕਿਹੜਾ ਭਾਗ ਮਹਾਤਮਾ ਗਾਂਧੀ ਦੇ ਆਦਰਸ਼ਾਂ ਨੂੰ ਸਭ ਤੋਂ ਵਧੀਆ ਢੰਗ ਨਾਲ ਦਰਸਾਉਂਦਾ ਹੈ?

- Ans
- 1. ਸੰਕਟਕਾਲੀਨ ਪ੍ਰਬੰਧ
 - 2. ਰਾਜ ਦੀ ਨੀਤੀ ਦੇ ਨਿਰਦੇਸ਼ਕ ਸਿਧਾਂਤ
 - 3. ਅਨੁਛੇਦ 1
 - 4. ਅਨੁਛੇਦ 3

Question ID :	441009103718
Option 1 ID :	441009413083
Option 2 ID :	441009413081
Option 3 ID :	441009413084
Option 4 ID :	441009413082
Status :	Answered
Chosen Option :	3

Q.3 ਰਾਜ ਸੂਚੀ ਵਿੱਚ ਵਰਣਿਤ ਮੱਦਾਂ 'ਤੇ ਕਾਨੂੰਨ ਬਣਾਉਣ ਲਈ ਹੇਠ ਲਿਖਿਆਂ ਵਿੱਚੋਂ ਕੌਣ ਜ਼ਿੰਮੇਵਾਰ ਹੈ?

- Ans
- 1. ਇੱਕ ਵਿਧਾਨ ਸਭਾ
 - 2. ਇੱਕ ਹਾਈ ਕੋਰਟ ਬੈਂਚ
 - 3. ਇੱਕ ਸੁਪਰੀਮ ਕੋਰਟ ਬੈਂਚ
 - 4. ਭਾਰਤ ਦਾ ਚੋਣ ਕਮਿਸ਼ਨ

Question ID :	441009117889
Option 1 ID :	441009468733
Option 2 ID :	441009468732
Option 3 ID :	441009468735
Option 4 ID :	441009468734
Status :	Answered
Chosen Option :	1

Q.3 ਹੋਲਾ ਮਹੱਲਾ ਤਿਉਹਾਰ ਕਿਸ ਸਿੱਖ ਗੁਰੂ ਨੇ ਸ਼ੁਰੂ ਕੀਤਾ ਸੀ?

- Ans
- 1. ਸ੍ਰੀ ਗੁਰੂ ਗੋਬਿੰਦ ਸਿੰਘ ਜੀ
 - 2. ਸ੍ਰੀ ਗੁਰੂ ਅਰਜਨ ਦੇਵ ਜੀ
 - 3. ਸ੍ਰੀ ਗੁਰੂ ਨਾਨਕ ਦੇਵ ਜੀ
 - 4. ਸ੍ਰੀ ਗੁਰੂ ਤੇਗ ਬਹਾਦਰ ਜੀ

Question ID :	441009127717
Option 1 ID :	441009507496
Option 2 ID :	441009507494
Option 3 ID :	441009507493
Option 4 ID :	441009507495
Status :	Answered
Chosen Option :	1

Q.3 4 ਚੌਪੀਅਨ ਅਤੇ ਸੇਠ ਵਰਗੀਕਰਣ (1968) ਦੇ ਅਨੁਸਾਰ, ਪੰਜਾਬ ਵਿੱਚ ਕਿੰਨੇ ਜੰਗਲ-ਕਿਸਮ ਦੇ ਸਮੂਹ (forest-type groups) ਪਾਏ ਜਾਂਦੇ ਹਨ?

- Ans
- 1. 2
 - 2. 4
 - 3. 3
 - 4. 5

Question ID : 441009109306

Option 1 ID : 441009434945

Option 2 ID : 441009434947

Option 3 ID : 441009434946

Option 4 ID : 441009434948

Status : Answered

Chosen Option : 1

Q.3 5 ਹੇਠ ਲਿਖਿਆਂ ਵਿੱਚੋਂ ਕਿਹੜਾ ਭੋਜਨ, ਸਰੀਰ ਨੂੰ ਸੰਕਰਮਣ ਅਤੇ ਬਿਮਾਰੀਆਂ ਨਾਲ ਲੜਨ ਵਿੱਚ ਮਦਦ ਕਰਦਾ ਹੈ?

- Ans
- 1. ਸਬਜ਼ੀਆਂ, ਫਲ
 - 2. ਮੀਟ, ਪੋਲਟਰੀ
 - 3. ਚੌਲ, ਚਪਾਤੀ
 - 4. ਚਰਬੀ, ਤੇਲ

Question ID : 441009125391

Option 1 ID : 441009498418

Option 2 ID : 441009498419

Option 3 ID : 441009498420

Option 4 ID : 441009498421

Status : Answered

Chosen Option : 1

Section : Quantitative Aptitude and Numerical Skills

Q.3 6 ਇੱਕ ਆਦਮੀ ਨੇ 4 ਸਾਲਾਂ ਲਈ 6% ਸਾਲਾਨਾ ਸਧਾਰਨ ਵਿਆਜ ਦੀ ਦਰ ਨਾਲ ₹55,000 ਦਾ ਨਿਵੇਸ਼ ਕੀਤਾ ਹੈ। 4 ਸਾਲਾਂ ਬਾਅਦ ਉਸਨੂੰ ਮਿਲਣ ਵਾਲੀ ਧਨ ਰਾਸ਼ੀ (₹ ਵਿੱਚ) ਪਤਾ ਕਰੋ।

- Ans
- 1. ₹68,200
 - 2. ₹13,200
 - 3. ₹69,200
 - 4. ₹14,200

Question ID : 441009194553

Option 1 ID : 441009766159

Option 2 ID : 441009766160

Option 3 ID : 441009766161

Option 4 ID : 441009766162

Status : Answered

Chosen Option : 1

Q.3 7 ਇੱਕ ਵਪਾਰੀ ਕੋਲ 2852 kg ਖੰਡ ਹੈ। ਉਹ ਇਸਦਾ ਇੱਕ ਹਿੱਸਾ 12% ਲਾਭ 'ਤੇ ਅਤੇ ਬਾਕੀ ਬਚੀ ਮਾਤਰਾ ਨੂੰ 58% ਲਾਭ 'ਤੇ ਵੇਚਦਾ ਹੈ। ਜੇਕਰ ਉਸਦਾ ਕੁੱਲ ਲਾਭ 51% ਹੈ, ਤਾਂ ਖੰਡੀ ਦੀ ਕਿੰਨੀ ਮਾਤਰਾ (kg ਵਿੱਚ) 58% ਲਾਭ 'ਤੇ ਵੇਚੀ ਗਈ ਸੀ?

- Ans
- 1. 2418
 - 2. 2409
 - 3. 2420
 - 4. 2413

Question ID :	441009191354
Option 1 ID :	441009754216
Option 2 ID :	441009754219
Option 3 ID :	441009754217
Option 4 ID :	441009754218
Status :	Answered
Chosen Option :	2

Q.3 8 ਇੱਕ ਪ੍ਰੀਖਿਆ ਵਿੱਚ, ਵੱਧ ਤੋਂ ਵੱਧ 105 ਅੰਕਾਂ ਵਿੱਚੋਂ, B ਨੂੰ 60 ਅੰਕ ਮਿਲੇ ਜਦੋਂ ਕਿ A ਨੂੰ 75 ਅੰਕ ਮਿਲੇ। B ਦੇ ਅੰਕ, A ਦੇ ਅੰਕਾਂ ਦਾ ਕਿੰਨਾ ਪ੍ਰਤੀਸ਼ਤ ਹੈ?

- Ans
- 1. 105%
 - 2. 125%
 - 3. 71.43%
 - 4. 80%

Question ID :	441009191074
Option 1 ID :	441009753098
Option 2 ID :	441009753097
Option 3 ID :	441009753099
Option 4 ID :	441009753096
Status :	Answered
Chosen Option :	4

Q.3 9 ਪੈਟਰੋਲ ਦਾ ਮੁੱਲ (ਪ੍ਰਤੀ ਲੀਟਰ) 65% ਵੱਧ ਜਾਂਦਾ ਹੈ। ਇਸ ਦੀ ਖਪਤ ਨੂੰ ਕਿੰਨੇ ਪ੍ਰਤੀਸ਼ਤ ਤੱਕ ਘਟਾਇਆ ਜਾਵੇ ਤਾਂ ਜੋ ਇਸ 'ਤੇ ਖਰਚ ਸਿਰਫ 32% ਵਧੇ?

- Ans
- 1. 17%
 - 2. 27%
 - 3. 26%
 - 4. 20%

Question ID :	441009194115
Option 1 ID :	441009764409
Option 2 ID :	441009764410
Option 3 ID :	441009764408
Option 4 ID :	441009764407
Status :	Answered
Chosen Option :	2

Q.4 400 ਅਮਰੂਦ ₹1,330 ਪ੍ਰਤੀ ਸੈਂਕੜਾ ਦੇ ਹਿਸਾਬ ਨਾਲ ਖਰੀਦੇ ਗਏ ਸਨ ਅਤੇ ₹880 ਦੇ ਲਾਭ 'ਤੇ ਵੇਚੇ ਗਏ ਸਨ। ਪ੍ਰਤੀ ਦਰਜਨ 0 ਅਮਰੂਦ ਦਾ ਵਿਕਰੀ ਮੁੱਲ (₹ ਵਿੱਚ) ਪਤਾ ਕਰੋ।

- Ans
- 1. 176
 - 2. 201
 - 3. 186
 - 4. 196

Question ID : 441009194196

Option 1 ID : 441009764732

Option 2 ID : 441009764734

Option 3 ID : 441009764731

Option 4 ID : 441009764733

Status : Answered

Chosen Option : 3

Q.4 ਤੁਸ਼ਾਰ ਨੇ 10 kg ਚੌਲ ₹37 ਪ੍ਰਤੀ kg ਦੀ ਦਰ ਨਾਲ ਅਤੇ 34 kg ਚੌਲ ₹46 ਪ੍ਰਤੀ kg ਦੀ ਦਰ ਨਾਲ ਖਰੀਦੇ। ਉਸਨੇ ਸਾਰਾ 1 ਮਿਸ਼ਰਣ ₹43.5 ਪ੍ਰਤੀ kg ਦੀ ਦਰ ਨਾਲ ਵੇਚ ਦਿੱਤਾ। ਉਸਦੀ ਹਾਨੀ (₹ ਵਿੱਚ) ਪਤਾ ਕਰੋ।

- Ans
- 1. 15
 - 2. 28
 - 3. 20
 - 4. 25

Question ID : 441009190991

Option 1 ID : 441009752766

Option 2 ID : 441009752767

Option 3 ID : 441009752764

Option 4 ID : 441009752765

Status : Answered

Chosen Option : 3

Q.4 ਦਿੱਤੇ ਗਏ ਸਮੀਕਰਨ ਵਿੱਚ ਦੋਵੇਂ ਪ੍ਰਸ਼ਨ ਚਿੰਨ੍ਹਾਂ ਨੂੰ ਕਿਹੜੀ ਸੰਖਿਆ ਨਾਲ ਬਦਲਣਾ ਚਾਹੀਦਾ ਹੈ?

$$\frac{?}{49} = \frac{900}{?}$$

- Ans
- 1. 210
 - 2. 206
 - 3. 196
 - 4. 190

Question ID : 441009191434

Option 1 ID : 441009754536

Option 2 ID : 441009754537

Option 3 ID : 441009754538

Option 4 ID : 441009754539

Status : Answered

Chosen Option : 1

Q.4 ਅੱਠ ਆਦਮੀ ਜਾਂ 6 ਔਰਤਾਂ ਇੱਕ ਕੰਮ ਨੂੰ 16 ਦਿਨਾਂ ਵਿੱਚ ਕਰ ਸਕਦੀਆਂ ਹਨ। ਅੱਠ ਆਦਮੀ 9 ਦਿਨ ਕੰਮ ਕਰਦੇ ਹਨ ਅਤੇ ਕੰਮ ਛੱਡਕੇ ਚਲੇ ਜਾਂਦੇ ਹਨ। ਬਾਕੀ ਬਚੇ ਕੰਮ ਨੂੰ 6 ਦਿਨਾਂ ਵਿੱਚ ਪੂਰਾ ਕਰਨ ਲਈ ਕਿੰਨੀਆਂ ਔਰਤਾਂ ਦੀ ਲੋੜ ਹੈ।

Ans 1. 7

2. 9

3. 6

4. 8

Question ID : 441009194126

Option 1 ID : 441009764451

Option 2 ID : 441009764452

Option 3 ID : 441009764454

Option 4 ID : 441009764453

Status : Answered

Chosen Option : 2

Q.4 ਇੱਕ ਫਰਿੱਜ ਦਾ ਅੰਕਿਤ ਮੁੱਲ ₹93,500 ਹੈ। ਇਸਨੂੰ 10% ਅਤੇ 20% ਦੀਆਂ ਲਗਾਤਾਰ ਦੋ ਛੋਟਾਂ ਤੋਂ ਬਾਅਦ ਇੱਕ ਪ੍ਰਚੂਨ ਵਿਕਰੇਤਾ ਨੂੰ ਵੇਚ ਦਿੱਤਾ ਜਾਂਦਾ ਹੈ। ਪ੍ਰਚੂਨ ਵਿਕਰੇਤਾ ਗਾਹਕ ਨੂੰ 50% ਛੋਟ (ਆਪਣੇ ਨਵੇਂ ਅੰਕਿਤ ਮੁੱਲ 'ਤੇ) ਦੇਣ ਤੋਂ ਬਾਅਦ ਆਪਣੀ ਖਰੀਦ 'ਤੇ 45% ਦਾ ਲਾਭ ਕਮਾਉਣਾ ਚਾਹੁੰਦਾ ਹੈ। ਉਸਨੂੰ ਫਰਿੱਜ ਨੂੰ ਕਿਸ ਮੁੱਲ 'ਤੇ ਅੰਕਿਤ ਕਰਨਾ ਚਾਹੀਦਾ ਹੈ?

Ans 1. ₹1,95,361

2. ₹1,95,317

3. ₹1,95,350

4. ₹1,95,228

Question ID : 441009194063

Option 1 ID : 441009764201

Option 2 ID : 441009764202

Option 3 ID : 441009764200

Option 4 ID : 441009764199

Status : Answered

Chosen Option : 4

Q.4 ਹੇਠ ਦਿੱਤੇ ਨੂੰ ਸਰਲ ਬਣਾਓ।

5

$$53 - \{39 \div (3 \times 7 - 8)\}$$

Ans 1. 50

2. 55

3. 57

4. 46

Question ID : 441009194414

Option 1 ID : 441009765603

Option 2 ID : 441009765605

Option 3 ID : 441009765606

Option 4 ID : 441009765604

Status : Answered

Chosen Option : 1

Q.4
6 $28\% \text{ of } 50 - \frac{2}{6} \times \sqrt[3]{216} \times \sqrt{81} = y$, ਤਾਂ y ਦਾ ਮੁੱਲ ਪਤਾ ਕਰੋ?

- Ans
- 1. 6
 - 2. 4
 - 3. 1
 - 4. -4

Question ID : 441009191283

Option 1 ID : 441009753934

Option 2 ID : 441009753933

Option 3 ID : 441009753935

Option 4 ID : 441009753932

Status : Answered

Chosen Option : 4

Q.4
7 ਇੱਕ ਵਪਾਰੀ ਕੋਲ 2660 kg ਖੰਡ ਹੈ। ਉਹ ਇਸਦਾ ਇੱਕ ਹਿੱਸਾ 38% ਲਾਭ 'ਤੇ ਅਤੇ ਬਾਕੀ ਬਚੀ ਮਾਤਰਾ 59% ਲਾਭ 'ਤੇ ਵੇਚਦਾ ਹੈ। ਜੇਕਰ ਉਸਦਾ ਕੁੱਲ ਲਾਭ 41% ਹੈ, ਤਾਂ ਖੰਡ ਦੀ ਕਿੰਨੀ ਮਾਤਰਾ (kg ਵਿੱਚ) 59% ਲਾਭ 'ਤੇ ਵੇਚੀ ਗਈ?

- Ans
- 1. 390
 - 2. 380
 - 3. 378
 - 4. 373

Question ID : 441009191366

Option 1 ID : 441009754265

Option 2 ID : 441009754264

Option 3 ID : 441009754267

Option 4 ID : 441009754266

Status : Answered

Chosen Option : 2

Q.4
8 ਫਰਨੀਚਰ ਦੀਆਂ ਤਿੰਨ ਵਸਤੂਆਂ ਦਾ ਔਸਤ ਮੁੱਲ ₹5,400 ਹੈ। ਜੇਕਰ ਉਨ੍ਹਾਂ ਦੇ ਮੁੱਲ 3:5:7 ਦੇ ਅਨੁਪਾਤ ਵਿੱਚ ਹਨ, ਤਾਂ ਸਭ ਤੋਂ ਮਹਿੰਗੀ ਵਸਤੂ ਦਾ ਮੁੱਲ (₹ ਵਿੱਚ) _____ ਹੈ।

- Ans
- 1. 5,400
 - 2. 1,080
 - 3. 3,240
 - 4. 7,560

Question ID : 441009194661

Option 1 ID : 441009766594

Option 2 ID : 441009766592

Option 3 ID : 441009766593

Option 4 ID : 441009766591

Status : Answered

Chosen Option : 4

Q.4 9 ਇੱਕ ਜੈਕਟ ਦਾ ਅੰਕਿਤ ਮੁੱਲ ₹2,000 ਹੈ। ਇਸ ਮੁੱਲ ਵਿੱਚ ਲਗਾਤਾਰ ਦੋ ਛੋਟਾਂ ਤੋਂ ਬਾਅਦ ਜਿਨ੍ਹਾਂ ਵਿੱਚ ਪਹਿਲੀ ਛੋਟ 10% ਹੈ ਤੇ ਫਿਰ ਘਟਾਈ ਗਈ ਕੀਮਤ 'ਤੇ 5% ਛੋਟ ਸ਼ਾਮਲ ਹੈ। ਜੈਕਟ ਦਾ ਅੰਤਿਮ ਵੇਚ ਮੁੱਲ ਪਤਾ ਕਰੋ।

Ans 1. ₹1,710

2. ₹1,700

3. ₹1,800

4. ₹1,750

Question ID : 441009130752

Option 1 ID : 441009519538

Option 2 ID : 441009519537

Option 3 ID : 441009519540

Option 4 ID : 441009519539

Status : Answered

Chosen Option : 2

Q.5 0 ₹7,200 ਨੂੰ P, Q ਅਤੇ R ਵਿੱਚ ਇਸ ਤਰ੍ਹਾਂ ਵੰਡਿਆ ਗਿਆ ਹੈ ਕਿ P ਦਾ 6 ਗੁਣਾ = Q ਦਾ 2 ਗੁਣਾ = R ਦਾ 3 ਗੁਣਾ ਹੈ। R ਦਾ ਹਿੱਸਾ ਪਤਾ ਕਰੋ।

Ans 1. ₹2,598

2. ₹2,373

3. ₹2,204

4. ₹2,400

Question ID : 441009191464

Option 1 ID : 441009754657

Option 2 ID : 441009754659

Option 3 ID : 441009754658

Option 4 ID : 441009754656

Status : Answered

Chosen Option : 4

Q.5 1 1.888... ਦੀ ਸਮਤੁੱਲ ਭਿੰਨ ਪਤਾ ਕਰੋ।

Ans 1. $\frac{13}{7}$

2. $\frac{10}{13}$

3. $\frac{23}{10}$

4. $\frac{17}{9}$

Question ID : 441009191264

Option 1 ID : 441009753859

Option 2 ID : 441009753858

Option 3 ID : 441009753857

Option 4 ID : 441009753856

Status : Answered

Chosen Option : 4

Q.5 ਦੇ ਟੂਟੀਆਂ ਇੱਕ ਟੈਂਕੀ ਨੂੰ ਕ੍ਰਮਵਾਰ 10 ਘੰਟਿਆਂ ਅਤੇ 13 ਘੰਟਿਆਂ ਵਿੱਚ ਭਰ ਸਕਦੀਆਂ ਹਨ। ਤੀਜੀ ਟੂਟੀ ਇਸਨੂੰ 12 ਘੰਟਿਆਂ ਵਿੱਚ ਖਾਲੀ ਕਰ ਸਕਦੀ ਹੈ। ਜੇਕਰ ਸਾਰੀਆਂ ਟੂਟੀਆਂ ਇਕੱਠੀਆਂ ਖੋਲ੍ਹ ਦਿੱਤੀਆਂ ਜਾਣ ਤਾਂ ਖਾਲੀ ਟੈਂਕੀ ਨੂੰ ਭਰਨ ਵਿੱਚ ਕਿੰਨਾ ਸਮਾਂ ਲੱਗੇਗਾ?

Ans 1. $12\frac{50}{73}$ ਘੰਟੇ

2. $20\frac{50}{73}$ ਘੰਟੇ

3. $10\frac{50}{73}$ ਘੰਟੇ

4. $8\frac{50}{73}$ ਘੰਟੇ

Question ID : 441009191176

Option 1 ID : 441009753505

Option 2 ID : 441009753507

Option 3 ID : 441009753504

Option 4 ID : 441009753506

Status : Answered

Chosen Option : 4

Comprehension:

ਇੱਕ ਉਸਾਰੀ ਕੰਪਨੀ ਸੜਕ ਪ੍ਰੋਜੈਕਟ ਨੂੰ ਪੂਰਾ ਕਰਨ ਲਈ ਤਿੰਨ ਟੀਮਾਂ ਨੂੰ ਨਿਯੁਕਤ ਕਰਦੀ ਹੈ: ਟੀਮ A, ਟੀਮ B, ਅਤੇ ਟੀਮ C।

- ਟੀਮ A ਇਕੱਲੀ 12 ਦਿਨਾਂ ਵਿੱਚ ਪ੍ਰੋਜੈਕਟ ਪੂਰਾ ਕਰ ਸਕਦੀ ਹੈ।

- ਟੀਮ B ਇਕੱਲੀ 18 ਦਿਨਾਂ ਵਿੱਚ ਪ੍ਰੋਜੈਕਟ ਪੂਰਾ ਕਰ ਸਕਦੀ ਹੈ।

- ਟੀਮ C, ਇੱਕ ਛੋਟੀ ਟੀਮ ਹੋਣ ਕਰਕੇ, ਪ੍ਰੋਜੈਕਟ ਨੂੰ ਇਕੱਲੇ ਪੂਰਾ ਕਰਨ ਵਿੱਚ 36 ਦਿਨ ਲੈਂਦੀ ਹੈ।

ਤਿੰਨ ਟੀਮਾਂ ਇਕੱਠੇ ਕੰਮ ਕਰਨਾ ਸ਼ੁਰੂ ਕਰਦੀਆਂ ਹਨ; ਪਰ 4 ਦਿਨਾਂ ਬਾਅਦ, ਟੀਮ C ਚਲੀ ਜਾਂਦੀ ਹੈ, ਅਤੇ ਸਿਰਫ਼ ਟੀਮ A ਅਤੇ B ਹੀ ਕੰਮ ਜਾਰੀ ਰੱਖਦੀਆਂ ਹਨ।

SubQuestion No : 53

Q.5 ਪਹਿਲੇ 4 ਦਿਨਾਂ ਵਿੱਚ ਪ੍ਰੋਜੈਕਟ ਦਾ ਕਿੰਨਾ ਹਿੱਸਾ ਪੂਰਾ ਹੋ ਜਾਂਦਾ ਹੈ?

Ans 1. $\frac{2}{3}$

2. $\frac{3}{5}$

3. $\frac{1}{4}$

4. $\frac{1}{3}$

Question ID : 441009130466

Option 1 ID : 441009518304

Option 2 ID : 441009518306

Option 3 ID : 441009518303

Option 4 ID : 441009518305

Status : Answered

Chosen Option : 1

Comprehension:

ਇੱਕ ਉਸਾਰੀ ਕੰਪਨੀ ਸੜਕ ਪ੍ਰੋਜੈਕਟ ਨੂੰ ਪੂਰਾ ਕਰਨ ਲਈ ਤਿੰਨ ਟੀਮਾਂ ਨੂੰ ਨਿਯੁਕਤ ਕਰਦੀ ਹੈ: ਟੀਮ A, ਟੀਮ B, ਅਤੇ ਟੀਮ C।

- ਟੀਮ A ਇਕੱਲੀ 12 ਦਿਨਾਂ ਵਿੱਚ ਪ੍ਰੋਜੈਕਟ ਪੂਰਾ ਕਰ ਸਕਦੀ ਹੈ।
- ਟੀਮ B ਇਕੱਲੀ 18 ਦਿਨਾਂ ਵਿੱਚ ਪ੍ਰੋਜੈਕਟ ਪੂਰਾ ਕਰ ਸਕਦੀ ਹੈ।
- ਟੀਮ C, ਇੱਕ ਛੋਟੀ ਟੀਮ ਹੋਣ ਕਰਕੇ, ਪ੍ਰੋਜੈਕਟ ਨੂੰ ਇਕੱਲੇ ਪੂਰਾ ਕਰਨ ਵਿੱਚ 36 ਦਿਨ ਲੈਂਦੀ ਹੈ।

ਤਿੰਨੋਂ ਟੀਮਾਂ ਇਕੱਠੇ ਕੰਮ ਕਰਨਾ ਸ਼ੁਰੂ ਕਰਦੀਆਂ ਹਨ; ਪਰ 4 ਦਿਨਾਂ ਬਾਅਦ, ਟੀਮ C ਚਲੀ ਜਾਂਦੀ ਹੈ, ਅਤੇ ਸਿਰਫ਼ ਟੀਮ A ਅਤੇ B ਹੀ ਕੰਮ ਜਾਰੀ ਰੱਖਦੀਆਂ ਹਨ।

SubQuestion No : 54

Q.5 ਟੀਮ C ਦੇ ਜਾਣ ਤੋਂ ਬਾਅਦ ਟੀਮਾਂ A ਅਤੇ B ਨੂੰ ਕੰਮ ਪੂਰਾ ਕਰਨ ਵਿੱਚ ਕਿੰਨਾ ਸਮਾਂ ਲੱਗੇਗਾ?
4

- Ans
- 1. 1.8 ਦਿਨ
 - 2. 3.6 ਦਿਨ
 - 3. 4.2 ਦਿਨ
 - 4. 2.4 ਦਿਨ

Question ID :	441009130467
Option 1 ID :	441009518310
Option 2 ID :	441009518307
Option 3 ID :	441009518308
Option 4 ID :	441009518309
Status :	Answered
Chosen Option :	1

Comprehension:

ਇੱਕ ਉਸਾਰੀ ਕੰਪਨੀ ਸੜਕ ਪ੍ਰੋਜੈਕਟ ਨੂੰ ਪੂਰਾ ਕਰਨ ਲਈ ਤਿੰਨ ਟੀਮਾਂ ਨੂੰ ਨਿਯੁਕਤ ਕਰਦੀ ਹੈ: ਟੀਮ A, ਟੀਮ B, ਅਤੇ ਟੀਮ C।

- ਟੀਮ A ਇਕੱਲੀ 12 ਦਿਨਾਂ ਵਿੱਚ ਪ੍ਰੋਜੈਕਟ ਪੂਰਾ ਕਰ ਸਕਦੀ ਹੈ।
- ਟੀਮ B ਇਕੱਲੀ 18 ਦਿਨਾਂ ਵਿੱਚ ਪ੍ਰੋਜੈਕਟ ਪੂਰਾ ਕਰ ਸਕਦੀ ਹੈ।
- ਟੀਮ C, ਇੱਕ ਛੋਟੀ ਟੀਮ ਹੋਣ ਕਰਕੇ, ਪ੍ਰੋਜੈਕਟ ਨੂੰ ਇਕੱਲੇ ਪੂਰਾ ਕਰਨ ਵਿੱਚ 36 ਦਿਨ ਲੈਂਦੀ ਹੈ।

ਤਿੰਨੋਂ ਟੀਮਾਂ ਇਕੱਠੇ ਕੰਮ ਕਰਨਾ ਸ਼ੁਰੂ ਕਰਦੀਆਂ ਹਨ; ਪਰ 4 ਦਿਨਾਂ ਬਾਅਦ, ਟੀਮ C ਚਲੀ ਜਾਂਦੀ ਹੈ, ਅਤੇ ਸਿਰਫ਼ ਟੀਮ A ਅਤੇ B ਹੀ ਕੰਮ ਜਾਰੀ ਰੱਖਦੀਆਂ ਹਨ।

SubQuestion No : 55

Q.5 ਜੇਕਰ ਚੌਥੀ ਟੀਮ, ਟੀਮ D, 4 ਦਿਨਾਂ ਬਾਅਦ ਸ਼ਾਮਲ ਹੁੰਦੀ ਹੈ ਅਤੇ 24 ਦਿਨਾਂ ਵਿੱਚ ਪੂਰਾ ਪ੍ਰੋਜੈਕਟ ਇਕੱਲੇ ਹੀ ਪੂਰਾ ਕਰ ਸਕਦੀ ਹੈ, ਤਾਂ 4 ਦਿਨਾਂ ਬਾਅਦ ਬਚੇ ਕੰਮ ਨੂੰ ਪੂਰਾ ਕਰਨ ਲਈ ਕਿੰਨਾ ਸਮਾਂ (ਦਿਨਾਂ ਵਿੱਚ) ਲੱਗੇਗਾ?

- Ans
- 1. $\frac{24}{13}$
 - 2. $\frac{22}{13}$
 - 3. $\frac{25}{12}$
 - 4. $\frac{26}{14}$

Question ID :	441009130468
Option 1 ID :	441009518312
Option 2 ID :	441009518313
Option 3 ID :	441009518311
Option 4 ID :	441009518314
Status :	Answered
Chosen Option :	1

Section : Mental Ability & Logical Reasoning

Comprehension:	
ਦਿੱਤੀ ਗਈ ਜਾਣਕਾਰੀ ਪੜ੍ਹੋ ਅਤੇ ਅੱਗੇ ਦਿੱਤੇ ਪ੍ਰਸ਼ਨਾਂ ਦੇ ਉੱਤਰ ਦਿਓ।	
ਇੱਕ ਪ੍ਰੀਖਿਆ ਵਿੱਚ, ਆਯੁਸ਼ ਸਿਖਰ ਤੋਂ 38ਵੇਂ ਸਥਾਨ 'ਤੇ ਅਤੇ ਹੇਮਾਂਗ ਹੇਠਾਂ ਤੋਂ 19ਵੇਂ ਸਥਾਨ 'ਤੇ ਰਿਹਾ। ਆਯੁਸ਼, ਹੇਮਾਂਗ ਤੋਂ ਠੀਕ ਹੇਠਲੇ ਸਥਾਨ 'ਤੇ ਹੈ।	
SubQuestion No : 56	
Q.5	ਹੇਮਾਂਗ ਦਾ ਉੱਪਰੋਂ ਸਥਾਨ ਕਿੰਨਵਾਂ ਸੀ?
6	
Ans	✓ 1. 37
	✗ 2. 35
	✗ 3. 39
	✗ 4. 36

Question ID :	44100977077
Option 1 ID :	441009306357
Option 2 ID :	441009306359
Option 3 ID :	441009306360
Option 4 ID :	441009306358
Status :	Answered
Chosen Option :	1

Comprehension:	
ਦਿੱਤੀ ਗਈ ਜਾਣਕਾਰੀ ਪੜ੍ਹੋ ਅਤੇ ਅੱਗੇ ਦਿੱਤੇ ਪ੍ਰਸ਼ਨਾਂ ਦੇ ਉੱਤਰ ਦਿਓ।	
ਇੱਕ ਪ੍ਰੀਖਿਆ ਵਿੱਚ, ਆਯੁਸ਼ ਸਿਖਰ ਤੋਂ 38ਵੇਂ ਸਥਾਨ 'ਤੇ ਅਤੇ ਹੇਮਾਂਗ ਹੇਠਾਂ ਤੋਂ 19ਵੇਂ ਸਥਾਨ 'ਤੇ ਰਿਹਾ। ਆਯੁਸ਼, ਹੇਮਾਂਗ ਤੋਂ ਠੀਕ ਹੇਠਲੇ ਸਥਾਨ 'ਤੇ ਹੈ।	
SubQuestion No : 57	
Q.5	ਜਮਾਤ ਵਿੱਚ ਕਿੰਨੇ ਵਿਦਿਆਰਥੀ ਹਨ?
7	
Ans	✗ 1. 56
	✓ 2. 55
	✗ 3. 53
	✗ 4. 54

Question ID :	44100977076
Option 1 ID :	441009306356
Option 2 ID :	441009306353
Option 3 ID :	441009306355
Option 4 ID :	441009306354
Status :	Answered
Chosen Option :	2

Comprehension:

ਦਿੱਤੀ ਗਈ ਜਾਣਕਾਰੀ ਨੂੰ ਪੜ੍ਹੋ ਅਤੇ ਅੱਗੇ ਦਿੱਤੇ ਸਵਾਲਾਂ ਦੇ ਜਵਾਬ ਦਿਓ।

ਪੰਜ ਲੋਕ P, Q, R, S ਅਤੇ T ਉੱਤਰ ਵੱਲ ਮੂੰਹ ਕਰਕੇ ਇੱਕ ਕਤਾਰ ਵਿੱਚ ਬੈਠੇ ਹਨ। P ਕਤਾਰ ਦੇ ਠੀਕ ਸੱਜੇ ਸਿਰੇ 'ਤੇ ਬੈਠਾ ਹੈ। ਸਿਰਫ਼ ਇੱਕ ਵਿਅਕਤੀ P ਅਤੇ Q ਦੇ ਵਿਚਕਾਰ ਬੈਠਾ ਹੈ। R ਕਤਾਰ ਦੇ ਖੱਬੇ ਸਿਰੇ ਤੋਂ ਦੂਜੇ ਸਥਾਨ 'ਤੇ ਬੈਠਾ ਹੈ। ਸਿਰਫ਼ ਇੱਕ ਵਿਅਕਤੀ Q ਅਤੇ S ਦੇ ਵਿਚਕਾਰ ਬੈਠਾ ਹੈ।

SubQuestion No : 58

Q.5 ਦਿੱਤੇ ਗਏ ਪ੍ਰਬੰਧ ਦੇ ਆਧਾਰ 'ਤੇ, ਹੇਠਾਂ ਦਿੱਤੇ ਚਾਰ ਅੱਖਰ-ਸਮੂਹਾਂ ਵਿੱਚੋਂ ਤਿੰਨ ਇੱਕ ਖਾਸ ਤਰੀਕੇ ਨਾਲ ਇੱਕੋ ਜਿਹੇ ਹਨ ਅਤੇ ਇਸ ਤਰ੍ਹਾਂ ਇੱਕ ਸਮੂਹ ਬਣਾਉਂਦੇ ਹਨ। ਕਿਹੜਾ ਅੱਖਰ-ਸਮੂਹ ਉਸ ਸਮੂਹ ਨਾਲ ਸਬੰਧਤ ਨਹੀਂ ਹੈ?

Ans 1. SR

2. QT

3. TP

4. SQ

Question ID : 44100976350

Option 1 ID : 441009303645

Option 2 ID : 441009303647

Option 3 ID : 441009303646

Option 4 ID : 441009303644

Status : Answered

Chosen Option : 1

Comprehension:

ਦਿੱਤੀ ਗਈ ਜਾਣਕਾਰੀ ਨੂੰ ਪੜ੍ਹੋ ਅਤੇ ਅੱਗੇ ਦਿੱਤੇ ਸਵਾਲਾਂ ਦੇ ਜਵਾਬ ਦਿਓ।

ਪੰਜ ਲੋਕ P, Q, R, S ਅਤੇ T ਉੱਤਰ ਵੱਲ ਮੂੰਹ ਕਰਕੇ ਇੱਕ ਕਤਾਰ ਵਿੱਚ ਬੈਠੇ ਹਨ। P ਕਤਾਰ ਦੇ ਠੀਕ ਸੱਜੇ ਸਿਰੇ 'ਤੇ ਬੈਠਾ ਹੈ। ਸਿਰਫ਼ ਇੱਕ ਵਿਅਕਤੀ P ਅਤੇ Q ਦੇ ਵਿਚਕਾਰ ਬੈਠਾ ਹੈ। R ਕਤਾਰ ਦੇ ਖੱਬੇ ਸਿਰੇ ਤੋਂ ਦੂਜੇ ਸਥਾਨ 'ਤੇ ਬੈਠਾ ਹੈ। ਸਿਰਫ਼ ਇੱਕ ਵਿਅਕਤੀ Q ਅਤੇ S ਦੇ ਵਿਚਕਾਰ ਬੈਠਾ ਹੈ।

SubQuestion No : 59

Q.5 ਕਤਾਰ ਦੇ ਸੱਜੇ ਸਿਰੇ ਤੋਂ ਦੂਜੇ ਸਥਾਨ 'ਤੇ ਕੌਣ ਬੈਠਾ ਹੈ?

Ans 1. S

2. T

3. P

4. R

Question ID : 44100976348

Option 1 ID : 441009303638

Option 2 ID : 441009303639

Option 3 ID : 441009303636

Option 4 ID : 441009303637

Status : Answered

Chosen Option : 2

Comprehension:

ਦਿੱਤੀ ਗਈ ਜਾਣਕਾਰੀ ਨੂੰ ਪੜ੍ਹੋ ਅਤੇ ਅੱਗੇ ਦਿੱਤੇ ਸਵਾਲਾਂ ਦੇ ਜਵਾਬ ਦਿਓ।

ਪੰਜ ਲੋਕ P, Q, R, S ਅਤੇ T ਉੱਤਰ ਵੱਲ ਮੂੰਹ ਕਰਕੇ ਇੱਕ ਕਤਾਰ ਵਿੱਚ ਬੈਠੇ ਹਨ। P ਕਤਾਰ ਦੇ ਠੀਕ ਸੱਜੇ ਸਿਰੇ 'ਤੇ ਬੈਠਾ ਹੈ। ਸਿਰਫ਼ ਇੱਕ ਵਿਅਕਤੀ P ਅਤੇ Q ਦੇ ਵਿਚਕਾਰ ਬੈਠਾ ਹੈ। R ਕਤਾਰ ਦੇ ਖੱਬੇ ਸਿਰੇ ਤੋਂ ਦੂਜੇ ਸਥਾਨ 'ਤੇ ਬੈਠਾ ਹੈ। ਸਿਰਫ਼ ਇੱਕ ਵਿਅਕਤੀ Q ਅਤੇ S ਦੇ ਵਿਚਕਾਰ ਬੈਠਾ ਹੈ।

SubQuestion No : 60

Q.6 T ਅਤੇ R ਦੇ ਵਿਚਕਾਰ ਕਿੰਨੇ ਲੋਕ ਬੈਠੇ ਹਨ?

Ans 1. ਚਾਰ

2. ਇੱਕ

3. ਤਿੰਨ

4. ਦੋ

Question ID : 44100976349

Option 1 ID : 441009303643

Option 2 ID : 441009303640

Option 3 ID : 441009303642

Option 4 ID : 441009303641

Status : Answered

Chosen Option : 2

Comprehension:

ਦਿੱਤੀ ਗਈ ਜਾਣਕਾਰੀ ਨੂੰ ਪੜ੍ਹੋ ਅਤੇ ਹੇਠਾਂ ਦਿੱਤੇ ਸਵਾਲਾਂ ਦੇ ਜਵਾਬ ਦਿਓ।

ਜੁਲੀਆ ਬਿੰਦੂ A ਤੋਂ ਸ਼ੁਰੂ ਕਰਦੀ ਹੈ ਅਤੇ ਪੱਛਮ ਵੱਲ 26 km ਗੱਡੀ ਚਲਾਉਂਦੀ ਹੈ। ਫਿਰ ਉਹ ਖੱਬੇ ਮੁੜਦੀ ਹੈ, 26 km ਗੱਡੀ ਚਲਾਉਂਦੀ ਹੈ ਅਤੇ ਫਿਰ ਖੱਬੇ ਮੁੜ ਕੇ 29 km ਗੱਡੀ ਚਲਾਉਂਦੀ ਹੈ। ਫਿਰ ਉਹ ਖੱਬੇ ਮੁੜਦੀ ਹੈ ਅਤੇ 35 km ਗੱਡੀ ਚਲਾਉਂਦੀ ਹੈ। ਅੰਤ ਉਹ ਖੱਬੇ ਮੁੜਦੀ ਹੈ ਅਤੇ 3 km ਗੱਡੀ ਚਲਾ ਕੇ ਬਿੰਦੂ P 'ਤੇ ਰੁਕ ਜਾਂਦੀ ਹੈ।

SubQuestion No : 61

Q.6 ਬਿੰਦੂ P ਤੋਂ ਦੁਬਾਰਾ ਬਿੰਦੂ A ਤੱਕ ਪਹੁੰਚਣ ਲਈ ਉਹਨੂੰ ਕਿਹੜੀ ਦਿਸ਼ਾ ਵੱਲ ਗੱਡੀ ਚਲਾਉਣੀ ਚਾਹੀਦੀ ਹੈ? (ਜਦੋਂ ਤੱਕ ਨਿਰਧਾਰਤ ਨਹੀਂ ਕੀਤਾ ਜਾਂਦਾ, ਸਾਰੇ ਮੋੜ ਸਿਰਫ਼ 90° ਮੋੜ ਹਨ।)

Ans 1. ਉੱਤਰ

2. ਦੱਖਣ

3. ਪੂਰਬ

4. ਪੱਛਮ

Question ID : 44100979076

Option 1 ID : 441009314200

Option 2 ID : 441009314201

Option 3 ID : 441009314198

Option 4 ID : 441009314199

Status : Answered

Chosen Option : 1

Comprehension:

ਦਿੱਤੀ ਗਈ ਜਾਣਕਾਰੀ ਨੂੰ ਪੜ੍ਹੋ ਅਤੇ ਹੇਠਾਂ ਦਿੱਤੇ ਸਵਾਲਾਂ ਦੇ ਜਵਾਬ ਦਿਓ।

ਜੁਲੀਆ ਬਿੰਦੂ A ਤੋਂ ਸ਼ੁਰੂ ਕਰਦੀ ਹੈ ਅਤੇ ਪੱਛਮ ਵੱਲ 26 km ਗੱਡੀ ਚਲਾਉਂਦੀ ਹੈ। ਫਿਰ ਉਹ ਖੱਬੇ ਮੁੜਦੀ ਹੈ, 26 km ਗੱਡੀ ਚਲਾਉਂਦੀ ਹੈ ਅਤੇ ਫਿਰ ਖੱਬੇ ਮੁੜ ਕੇ 29 km ਗੱਡੀ ਚਲਾਉਂਦੀ ਹੈ। ਫਿਰ ਉਹ ਖੱਬੇ ਮੁੜਦੀ ਹੈ ਅਤੇ 35 km ਗੱਡੀ ਚਲਾਉਂਦੀ ਹੈ। ਅੰਤ ਉਹ ਖੱਬੇ ਮੁੜਦੀ ਹੈ ਅਤੇ 3 km ਗੱਡੀ ਚਲਾ ਕੇ ਬਿੰਦੂ P 'ਤੇ ਰੁਕ ਜਾਂਦੀ ਹੈ।

SubQuestion No : 62

Q.6 ਬਿੰਦੂ A 'ਤੇ ਦੁਬਾਰਾ ਪਹੁੰਚਣ ਲਈ ਉਹਨੂੰ ਕਿੰਨੀ ਦੂਰੀ (ਸਭ ਤੋਂ ਛੋਟੀ ਦੂਰੀ) ਤੈਅ ਕਰਨੀ ਚਾਹੀਦੀ ਹੈ? (ਜਦੋਂ ਤੱਕ ਨਿਰਧਾਰਤ ਨਹੀਂ ਕੀਤਾ ਜਾਂਦਾ, ਸਾਰੇ ਮੋੜ ਸਿਰਫ਼ 90° ਮੋੜ ਹਨ।)

Ans 1.7 km

2.8 km

3.9 km

4.10 km

Question ID : 44100979075

Option 1 ID : 441009314194

Option 2 ID : 441009314195

Option 3 ID : 441009314196

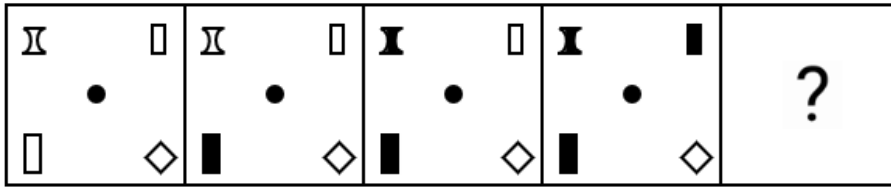
Option 4 ID : 441009314197

Status : Answered

Chosen Option : 3

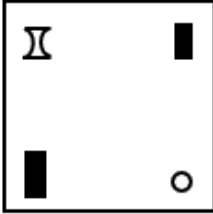


Q.6 ਵਿਕਲਪਾਂ ਵਿੱਚ ਦਿੱਤੇ ਗਏ ਚਿੱਤਰ ਦੀ ਪਛਾਣ ਕਰੋ ਜਿਸ ਨੂੰ ਪ੍ਰਸ਼ਨ ਚਿੰਨ੍ਹ (?) ਦੀ ਥਾਂ 'ਤੇ ਲਗਾਉਣ ਨਾਲ ਲੜੀ ਨੂੰ ਤਰਕਪੂਰਨ ਰੂਪ ਵਿੱਚ ਪੂਰਾ ਕੀਤਾ ਜਾਵੇਗਾ।

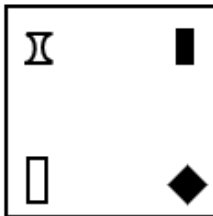


Ans

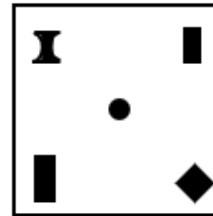
✗ 1.



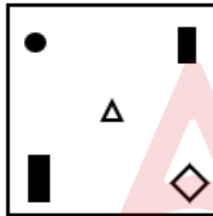
✗ 2.



✓ 3.



✗ 4.



Question ID :	63068091380
Option 1 ID :	441009411232
Option 2 ID :	441009411231
Option 3 ID :	441009411233
Option 4 ID :	441009411234
Status :	Answered
Chosen Option :	3

Q.6 ਹੇਠ ਦਿੱਤੀ ਅੱਖਰ ਲੜੀ ਦੇ ਹਵਾਲੇ ਤੋਂ ਅੱਗੇ ਦਿੱਤੇ ਪ੍ਰਸ਼ਨ ਦਾ ਉੱਤਰ ਦਿਓ। ਗਣਨਾਵਾਂ ਖੱਬੇ ਪਾਸੇ ਤੋਂ ਸੱਜੇ ਪਾਸੇ ਵੱਲ ਹੀ ਕਰਨੀਆਂ ਹਨ।

(ਖੱਬੇ) UCZNSFTJDYAPXBREGIHVL (ਸੱਜੇ)

ਦਿੱਤੀ ਗਈ ਲੜੀ ਵਿੱਚ ਕਿਹੜਾ ਅੱਖਰ ਖੱਬੇ ਤੋਂ ਛੇਵਾਂ ਹੋਵੇਗਾ?

Ans 1. L

2. F

3. E

4. R

Question ID : 44100983758

Option 1 ID : 441009332775

Option 2 ID : 441009332774

Option 3 ID : 441009332772

Option 4 ID : 441009332773

Status : Answered

Chosen Option : 2

Q.6 ਦਿੱਤੇ ਗਏ ਕਥਨਾਂ ਅਤੇ ਸਿੱਟਿਆਂ ਨੂੰ ਧਿਆਨ ਨਾਲ ਪੜ੍ਹੋ। ਇਹ ਮੰਨ ਕੇ ਕਿ ਕਥਨਾਂ ਵਿੱਚ ਦਿੱਤੀ ਗਈ ਜਾਣਕਾਰੀ ਸੱਚ ਹੈ, ਭਾਵੇਂ ਇਹ ਆਮ ਤੌਰ 'ਤੇ ਜਾਣੇ-ਪਛਾਣੇ ਤੱਥਾਂ ਨਾਲੋਂ ਭਿੰਨ ਜਾਪਦੀ ਹੈ, ਫੈਸਲਾ ਕਰੋ ਕਿ ਦਿੱਤੇ ਗਏ ਸਿੱਟਿਆਂ ਵਿੱਚੋਂ ਕਿਹੜਾ, ਕਥਨਾਂ ਤੋਂ ਤਰਕਪੂਰਨ ਤੌਰ 'ਤੇ ਪਾਲਣਾ ਕਰਦਾ ਹੈ।

ਕਥਨ:

ਕੁਝ ਕੁਰਸੀਆਂ, ਚਾਬੀਆਂ ਹਨ।

ਕੁਝ ਚਾਬੀਆਂ, ਪਲਾਸਟਿਕ ਹਨ।

ਸਿੱਟੇ:

(I) ਸਾਰੀਆਂ ਚਾਬੀਆਂ, ਕੁਰਸੀਆਂ ਹਨ।

(II) ਸਾਰੀਆਂ ਕੁਰਸੀਆਂ, ਪਲਾਸਟਿਕ ਹਨ।

Ans 1. ਨਾ ਤਾਂ ਸਿੱਟਾ (I) ਅਤੇ ਨਾ ਹੀ (II) ਇਸਦੀ ਪਾਲਣਾ ਕਰਦਾ ਹੈ।

2. ਸਿਰਫ਼ ਸਿੱਟਾ (I) ਪਾਲਣ ਕਰਦਾ ਹੈ।

3. ਦੋਵੇਂ ਸਿੱਟੇ (I) ਅਤੇ (II) ਪਾਲਣ ਕਰਦੇ ਹਨ।

4. ਸਿਰਫ਼ ਸਿੱਟਾ (II) ਪਾਲਣ ਕਰਦਾ ਹੈ।

Question ID : 44100982773

Option 1 ID : 441009328875

Option 2 ID : 441009328876

Option 3 ID : 441009328878

Option 4 ID : 441009328877

Status : Answered

Chosen Option : 1

Q.6 68 ਇੱਕ ਖਾਸ ਤਰਕ ਦੀ ਪਾਲਣਾ ਕਰਦੇ ਹੋਏ 80.7 ਨਾਲ ਸੰਬੰਧਿਤ ਹੈ। 95 ਉਸੇ ਤਰਕ ਦੀ ਪਾਲਣਾ ਕਰਦੇ ਹੋਏ 107.7 ਨਾਲ ਸੰਬੰਧਿਤ ਹੈ। ਉਸੇ ਤਰਕ ਦੀ ਪਾਲਣਾ ਕਰਦੇ ਹੋਏ, ਦਿੱਤੇ ਗਏ ਵਿਕਲਪਾਂ ਵਿੱਚੋਂ 72 ਕਿਸ ਨਾਲ ਸੰਬੰਧਿਤ ਹੈ?

(ਨੋਟ: ਸੰਖਿਆਵਾਂ 'ਤੇ ਕਿਰਿਆਵਾਂ ਉਨ੍ਹਾਂ ਨੂੰ ਉਹਨਾਂ ਦੇ ਘਟਕ ਅੰਕਾਂ ਵਿੱਚ ਵੰਡੇ ਬਿਨਾਂ, ਸੰਪੂਰਨ ਸੰਖਿਆਵਾਂ 'ਤੇ ਕੀਤੀਆਂ ਜਾਣੀਆਂ ਚਾਹੀਦੀਆਂ ਹਨ। ਉਦਾਹਰਨ ਲਈ, 13 - ਜਿਵੇਂ ਕਿ 13 'ਤੇ ਜੋੜਨਾ/ਘਟਾਉਣਾ/ਗੁਣਾ ਕਰਨਾ ਆਦਿ ਕਿਰਿਆਵਾਂ ਕੀਤੀਆਂ ਜਾ ਸਕਦੀਆਂ ਹਨ। 13 ਨੂੰ 1 ਅਤੇ 3 ਵਿੱਚ ਵੰਡਣਾ ਅਤੇ ਫਿਰ 1 ਅਤੇ 3 'ਤੇ ਗਣਿਤਿਕ ਕਿਰਿਆਵਾਂ ਕਰਨ ਦੀ ਆਗਿਆ ਨਹੀਂ ਹੈ।)

Ans 1. 86.7

2. 84.7

3. 83.7

4. 81.7

Question ID : 44100983418

Option 1 ID : 441009331436

Option 2 ID : 441009331434

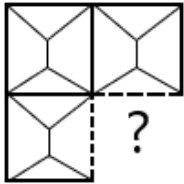
Option 3 ID : 441009331435

Option 4 ID : 441009331437

Status : Answered

Chosen Option : 4

Q.6 7 ਉਹ ਵਿਕਲਪ ਚੁਣੋ ਜੋ ਪੈਟਰਨ ਨੂੰ ਪੂਰਾ ਕਰਨ ਲਈ ਹੇਠਾਂ ਦਿੱਤੇ ਚਿੱਤਰ ਵਿੱਚ ਪ੍ਰਸ਼ਨ ਚਿੰਨ੍ਹ (?) ਦੀ ਥਾਂ ਆਵੇਗਾ।



Ans

1.



2.



3.



4.



Question ID : 63068091460

Option 1 ID : 441009371285

Option 2 ID : 441009371286

Option 3 ID : 441009371288

Option 4 ID : 441009371287

Status : Answered

Chosen Option : 4

Q.6 ਹੇਠ ਲਿਖੀ ਲੜੀ ਵਿੱਚ ਦਿੱਤੇ ਗਏ ਵਿਕਲਪਾਂ ਵਿੱਚੋਂ ਉਹ ਵਿਕਲਪ ਚੁਣੋ ਜੋ ਪ੍ਰਸ਼ਨ ਚਿੰਨ੍ਹ (?) ਨੂੰ ਬਦਲ ਸਕਦਾ ਹੈ।
8 H19, J16, L13, N10, ?

Ans 1. P7

2. P0

3. P6

4. J8

Question ID : 44100987980

Option 1 ID : 441009349854

Option 2 ID : 441009349855

Option 3 ID : 441009349853

Option 4 ID : 441009349856

Status : Answered

Chosen Option : 3

Q.6 ਦਿੱਤੇ ਗਏ ਵਿਕਲਪਾਂ ਵਿੱਚੋਂ ਉਹ ਸੰਖਿਆ ਚੁਣੋ ਜੋ ਹੇਠ ਦਿੱਤੀ ਲੜੀ ਵਿੱਚ ਪ੍ਰਸ਼ਨ ਚਿੰਨ੍ਹ (?) ਦੀ ਥਾਂ ਲੈ ਸਕਦੀ ਹੈ।
9 95 70 50 35 25 ?

Ans 1. 15

2. 10

3. 20

4. 5

Question ID : 44100987336

Option 1 ID : 441009347143

Option 2 ID : 441009347145

Option 3 ID : 441009347144

Option 4 ID : 441009347146

Status : Answered

Chosen Option : 3

Q.7 ਦਿੱਤੀ ਗਈ ਲੜੀ ਵਿੱਚ ਪ੍ਰਸ਼ਨ ਚਿੰਨ੍ਹ (?) ਦੀ ਥਾਂ ਕੀ ਆਉਣਾ ਚਾਹੀਦਾ ਹੈ?
0 96 98.1 102.1 104.2 108.2 110.3 ?

Ans 1. 114.3

2. 112.4

3. 113.3

4. 115.4

Question ID : 44100983690

Option 1 ID : 441009332509

Option 2 ID : 441009332510

Option 3 ID : 441009332511

Option 4 ID : 441009332508

Status : Answered

Chosen Option : 1

Q.7 ਹੇਠਾਂ ਦਿੱਤੀ ਅੱਖਰ ਲੜੀ ਦਾ ਸੰਦਰਭ ਲਓ ਅਤੇ ਉਸ ਤੋਂ ਬਾਅਦ ਆਉਣ ਵਾਲੇ ਪ੍ਰਸ਼ਨ ਦਾ ਉੱਤਰ ਦਿਓ। ਗਿਣਤੀ ਕੇਵਲ ਖੱਬੇ ਤੋਂ ਸੱਜੇ ਕਰਨੀ ਹੈ।

(ਖੱਬੇ) CADLENACZNSPXDJGIHVL (ਸੱਜੇ)

ਦਿੱਤੀ ਗਈ ਲੜੀ ਵਿੱਚ ਖੱਬੇ ਪਾਸੇ ਤੋਂ ਛੇਵਾਂ ਅੱਖਰ ਕਿਹੜਾ ਹੈ?

Ans 1. D

2. N

3. J

4. A

Question ID : 44100984516

Option 1 ID : 441009335842

Option 2 ID : 441009335844

Option 3 ID : 441009335843

Option 4 ID : 441009335845

Status : Answered

Chosen Option : 2

Q.7 EKP ਅੰਗਰੇਜ਼ੀ ਵਰਣਮਾਲਾ ਦੇ ਕ੍ਰਮ ਦੇ ਆਧਾਰ 'ਤੇ ਇੱਕ ਖਾਸ ਤਰੀਕੇ ਨਾਲ BHM ਨਾਲ ਸੰਬੰਧਿਤ ਹੈ। GFI ਇਸੇ ਤਰ੍ਹਾਂ, DCF ਨਾਲ ਸੰਬੰਧਿਤ ਹੈ। ਉਸੇ ਤਰਕ ਦੀ ਪਾਲਣਾ ਕਰਦੇ ਹੋਏ, HMP ਦਿੱਤੇ ਗਏ ਵਿਕਲਪਾਂ ਵਿੱਚੋਂ ਕਿਸ ਨਾਲ ਸੰਬੰਧਿਤ ਹੈ?

Ans 1. FKN

2. EJM

3. PHM

4. DIL

Question ID : 44100983180

Option 1 ID : 441009330482

Option 2 ID : 441009330484

Option 3 ID : 441009330485

Option 4 ID : 441009330483

Status : Answered

Chosen Option : 3

Q.7 ਇੱਕ ਖਾਸ ਕੋਡ ਭਾਸ਼ਾ ਵਿੱਚ,
3 $A + B$ ਦਾ ਅਰਥ ਹੈ A, B ਦੀ ਮਾਤਾ ਹੈ,
 $A - B$ ਦਾ ਅਰਥ ਹੈ A, B ਦਾ ਪਿਤਾ ਹੈ,
 $A \times B$ ਦਾ ਅਰਥ ਹੈ A, B ਦੀ ਪਤਨੀ ਹੈ,
 A / B ਦਾ ਅਰਥ ਹੈ A, B ਦਾ ਪਤੀ ਹੈ,
 $A * B$ ਦਾ ਅਰਥ ਹੈ A, B ਦੀ ਭੈਣ ਹੈ,
 $A = B$ ਦਾ ਅਰਥ ਹੈ A, B ਦਾ ਭਰਾ ਹੈ।

ਉਪਰੋਕਤ ਦੇ ਆਧਾਰ 'ਤੇ, ਜੇਕਰ $J / T + O + M$ ਹੈ, ਤਾਂ J ਦਾ M ਨਾਲ ਕੀ ਸੰਬੰਧ ਹੈ?

- Ans 1. ਮਾਤਾ ਦੀ ਮਾਤਾ
2. ਪਿਤਾ
3. ਮਾਤਾ
4. ਮਾਤਾ ਦਾ ਪਿਤਾ

Question ID :	44100982858
Option 1 ID :	441009329197
Option 2 ID :	441009329196
Option 3 ID :	441009329195
Option 4 ID :	441009329198
Status :	Answered
Chosen Option :	1

Q.7 ਹੇਠਾਂ ਦਿੱਤੀ ਅੱਖਰ ਲੜੀ ਦਾ ਸੰਦਰਭ ਲਓ ਅਤੇ ਉਸ ਤੋਂ ਬਾਅਦ ਆਉਣ ਵਾਲੇ ਪ੍ਰਸ਼ਨ ਦਾ ਉੱਤਰ ਦਿਓ। ਗਿਣਤੀ ਕੇਵਲ ਖੱਬੇ ਤੋਂ ਸੱਜੇ
4 ਕਰਨੀ ਹੈ।

(ਖੱਬੇ) O I D F U C G W J L Z H E S X K Y O M A Q (ਸੱਜੇ)

ਦਿੱਤੀ ਗਈ ਲੜੀ ਵਿੱਚ ਖੱਬੇ ਪਾਸੇ ਤੋਂ ਛੇਵਾਂ ਅੱਖਰ ਕਿਹੜਾ ਹੈ?

- Ans 1. X
2. C
3. G
4. K

Question ID :	44100984481
Option 1 ID :	441009335710
Option 2 ID :	441009335712
Option 3 ID :	441009335713
Option 4 ID :	441009335711
Status :	Answered
Chosen Option :	3

Q.7 ਇੱਕ ਖਾਸ ਕੋਡ ਭਾਸ਼ਾ ਵਿੱਚ,
5 $A + B$ ਦਾ ਅਰਥ ਹੈ A, B ਦੀ ਮਾਂ ਹੈ,
 $A - B$ ਦਾ ਅਰਥ ਹੈ A, B ਦਾ ਪਿਤਾ ਹੈ,
 $A \times B$ ਦਾ ਅਰਥ ਹੈ A, B ਦੀ ਪਤਨੀ ਹੈ,
 A / B ਦਾ ਅਰਥ ਹੈ A, B ਦਾ ਪਤੀ ਹੈ,
 $A * B$ ਦਾ ਅਰਥ ਹੈ A, B ਦੀ ਭੈਣ ਹੈ,
 $A = B$ ਦਾ ਅਰਥ ਹੈ A, B ਦਾ ਭਰਾ ਹੈ।

ਉਪਰੋਕਤ ਦੇ ਆਧਾਰ 'ਤੇ, ਜੇਕਰ $M \times P - O * J$ ਹੈ, ਤਾਂ P ਦਾ J ਨਾਲ ਕੀ ਸੰਬੰਧ ਹੈ?

- Ans
- 1. ਮਾਂ
 - 2. ਭੈਣ
 - 3. ਭਰਾ
 - 4. ਪਿਤਾ

Question ID : 44100982854

Option 1 ID : 441009329179

Option 2 ID : 441009329180

Option 3 ID : 441009329181

Option 4 ID : 441009329182

Status : Answered

Chosen Option : 4

Section : English Language Skills and Punjabi Language Skills

Q.7 Select the most appropriate option to fill in the blank.

6 The monk lived in an _____ hut, with only the bare essentials needed for survival.

- Ans
- 1. imposing
 - 2. austere
 - 3. ornate
 - 4. extravagant

Question ID : 44100978411

Option 1 ID : 441009311665

Option 2 ID : 441009311666

Option 3 ID : 441009311664

Option 4 ID : 441009311667

Status : Answered

Chosen Option : 3

Q.7 One of the four words in bold in the given paragraph is incorrectly spelt. Identify the incorrectly spelt word and select the option that rectifies it.

Celestial navigation requires accurate calculations based on the position of the sun, moon and stars. By the **heyday** of European voyages of exploration, instruments such as the compass, the **sextent** and the **chronometer** aided mariners, as did an ever expanding collection of maps, charts, tables and almanacs. Modern navigation, based on traditional principles, uses electronic instrumentation – such as radio, radar and global positioning systems – to determine position and to set course.

- Ans
- 1. Almanacs
 - 2. Hayday
 - 3. Sextant
 - 4. Celestiel

Question ID :	441009126665
Option 1 ID :	441009503339
Option 2 ID :	441009503338
Option 3 ID :	441009503336
Option 4 ID :	441009503337
Status :	Answered
Chosen Option :	1

Q.7 Select the option that can be used as a one-word substitute for the underlined group of words in the given sentence.

Fully functional without external control machines have made humans totally dependent on them.

- Ans
- 1. functional
 - 2. automatic
 - 3. working
 - 4. rotating

Question ID :	441009106388
Option 1 ID :	441009423577
Option 2 ID :	441009423575
Option 3 ID :	441009423576
Option 4 ID :	441009423578
Status :	Answered
Chosen Option :	2

Q.7 9	English Sentence: "In parliament, everyone has the right to ask questions." Which of the following is the perfect translation?
Ans	<p><input checked="" type="checkbox"/> 1. "ਸੰਸਦ ਵਿੱਚ ਸਵਾਲ ਪੁੱਛਣ ਦਾ ਹੱਕ ਹੈ।"</p> <p><input checked="" type="checkbox"/> 2. "ਸੰਸਦ ਵਿੱਚ ਹਰ ਕਿਸੇ ਨੂੰ ਸਵਾਲ ਪੁੱਛਣ ਦਾ ਹੱਕ ਹੈ।"</p> <p><input checked="" type="checkbox"/> 3. "ਸੰਸਦ ਵਿੱਚ ਹਰ ਵਿਅਕਤੀ ਨੂੰ ਸਵਾਲ ਪੁੱਛਣ ਦਾ ਹੱਕ ਮਿਲਦਾ ਹੈ।"</p> <p><input checked="" type="checkbox"/> 4. "ਸੰਸਦ ਵਿੱਚ ਸਵਾਲ ਪੁੱਛਣਾ ਹੱਕ ਹੈ।"</p>

Question ID :	441009275307
Option 1 ID :	4410091069425
Option 2 ID :	4410091069427
Option 3 ID :	4410091069426
Option 4 ID :	4410091069424
Status :	Answered
Chosen Option :	2

Q.8 0	<p>The following sentences form a coherent paragraph, but they are jumbled. Rearrange them into the correct logical order to form a meaningful passage. Select the option that presents the correct sequence.</p> <p>A. The Renaissance was a period of great intellectual and artistic growth in Europe.</p> <p>B. Influential thinkers like Leonardo da Vinci and Michelangelo made groundbreaking contributions to art and science.</p> <p>C. This era saw the revival of classical learning and a shift toward humanism.</p> <p>D. It laid the foundation for many modern advancements in philosophy, literature, and the sciences.</p>
Ans	<p><input checked="" type="checkbox"/> 1. ACBD</p> <p><input checked="" type="checkbox"/> 2. BADC</p> <p><input checked="" type="checkbox"/> 3. ABDC</p> <p><input checked="" type="checkbox"/> 4. BCDA</p>

Question ID :	44100978510
Option 1 ID :	441009312057
Option 2 ID :	441009312058
Option 3 ID :	441009312055
Option 4 ID :	441009312056
Status :	Answered
Chosen Option :	1

Q.8 1	<p>ਹੇਠ ਦਿੱਤੇ ਵਾਕ ਲਈ ਸਭ ਤੋਂ ਸਹੀ ਅੰਗਰੇਜ਼ੀ ਅਨੁਵਾਦ ਚੁਣੋ:</p> <p>Punjabi Sentence: ਜੇ ਅਸੀਂ ਕੁਝ ਨਵਾਂ ਸਿਖਣਾ ਚਾਹੁੰਦੇ ਹਾਂ ਤਾਂ ਸਾਨੂੰ ਖੁਲ੍ਹੇ ਮਨ ਨਾਲ ਸੋਚਣਾ ਪਵੇਗਾ।</p>
Ans	<p><input checked="" type="checkbox"/> 1. Nothing new can be learned without rejecting old traditions.</p> <p><input checked="" type="checkbox"/> 2. Learning new things requires a closed and cautious mindset.</p> <p><input checked="" type="checkbox"/> 3. To learn something new, forget everything you already know.</p> <p><input checked="" type="checkbox"/> 4. If we wish to learn something new, we must think with an open mind.</p>

Question ID :	441009318449
Option 1 ID :	4410091240088
Option 2 ID :	4410091240086
Option 3 ID :	4410091240087
Option 4 ID :	4410091240085
Status :	Answered
Chosen Option :	4

Q.8	Select the most appropriate synonym of the given word.
2	Munificent
Ans	✓ 1. Generous
	✗ 2. Indifferent
	✗ 3. Concise
	✗ 4. Stingy

Question ID :	44100997316
Option 1 ID :	441009387267
Option 2 ID :	441009387269
Option 3 ID :	441009387270
Option 4 ID :	441009387268
Status :	Answered
Chosen Option :	1

Comprehension:

Read the given passage carefully and answer the questions that follow.

Sarojini Naidu earned the title 'Nightingale of India' not just for her poetic talent, but also for lending her voice to the voiceless. At a time when women were expected to remain silent in public affairs, she stood boldly on political platforms and addressed thousands. Her speeches were filled with compassion, clarity, and conviction. She believed that real freedom could not be achieved without empowering the marginalised—especially women and minorities. As the first Indian woman to become the President of the Indian National Congress and later the Governor of Uttar Pradesh, she broke barriers that had stood for centuries. Her activism was always rooted in peace and nonviolence, drawing inspiration from Mahatma Gandhi. She taught that dignity, not dominance, should guide leadership. Sarojini's life was a lesson in using both words and actions to fight injustice. Her courage inspired countless others to rise, speak, and serve—not just for independence, but for equality and human dignity.

SubQuestion No : 83

Q.8	Why is Sarojini Naidu called the 'Nightingale of India'?
3	
Ans	✗ 1. She trained in classical Indian music
	✗ 2. She had a melodious voice
	✓ 3. She wrote poetry and spoke for the oppressed
	✗ 4. She sang songs during protests

Question ID :	441009174714
Option 1 ID :	441009691112
Option 2 ID :	441009691110
Option 3 ID :	441009691111
Option 4 ID :	441009691109
Status :	Answered
Chosen Option :	3

Comprehension:

Read the given passage carefully and answer the questions that follow.

Sarojini Naidu earned the title 'Nightingale of India' not just for her poetic talent, but also for lending her voice to the voiceless. At a time when women were expected to remain silent in public affairs, she stood boldly on political platforms and addressed thousands. Her speeches were filled with compassion, clarity, and conviction. She believed that real freedom could not be achieved without empowering the marginalised—especially women and minorities. As the first Indian woman to become the President of the Indian National Congress and later the Governor of Uttar Pradesh, she broke barriers that had stood for centuries. Her activism was always rooted in peace and nonviolence, drawing inspiration from Mahatma Gandhi. She taught that dignity, not dominance, should guide leadership. Sarojini's life was a lesson in using both words and actions to fight injustice. Her courage inspired countless others to rise, speak, and serve—not just for independence, but for equality and human dignity.

SubQuestion No : 84**Q.8** What social belief did Sarojini Naidu strongly oppose?

4

- Ans**
- 1. Education for all citizens
 - 2. Participation of youth in politics
 - 3. Silence of women in public life
 - 4. Use of English in Indian speeches

Question ID : 441009174715

Option 1 ID : 441009691116

Option 2 ID : 441009691115

Option 3 ID : 441009691114

Option 4 ID : 441009691113

Status : Answered

Chosen Option : 3

Comprehension:

Read the given passage carefully and answer the questions that follow.

Sarojini Naidu earned the title 'Nightingale of India' not just for her poetic talent, but also for lending her voice to the voiceless. At a time when women were expected to remain silent in public affairs, she stood boldly on political platforms and addressed thousands. Her speeches were filled with compassion, clarity, and conviction. She believed that real freedom could not be achieved without empowering the marginalised—especially women and minorities. As the first Indian woman to become the President of the Indian National Congress and later the Governor of Uttar Pradesh, she broke barriers that had stood for centuries. Her activism was always rooted in peace and nonviolence, drawing inspiration from Mahatma Gandhi. She taught that dignity, not dominance, should guide leadership. Sarojini's life was a lesson in using both words and actions to fight injustice. Her courage inspired countless others to rise, speak, and serve—not just for independence, but for equality and human dignity.

SubQuestion No : 85

Q.8 Which ethical value does Sarojini Naidu's leadership best reflect?

5

Ans 1. Strict laws and punishments

2. Economic control

3. Peaceful activism and inclusive leadership

4. Aggressive reforms

Question ID : 441009174716

Option 1 ID : 441009691120

Option 2 ID : 441009691118

Option 3 ID : 441009691119

Option 4 ID : 441009691117

Status : Answered

Chosen Option : 3

Q.8 ਹੇਠਲੇ ਵਾਕਾਂ ਵਿੱਚੋਂ ਕਿਹੜਾ ਵਾਕ ਸਹੀ ਨਹੀਂ ਹੈ?

6

Ans 1. ਉਸਦੇ ਦੋਵੇਂ ਹੱਥ ਜ਼ਖ਼ਮੀ ਹਨ।

2. ਨਿਰੂ ਕਾਚੂ ਨਾਲ ਆਲੂ ਸਿਲ ਰਹੀ ਹੈ।

3. ਹਰਜੀਤ ਦੀ ਪੁਸਤਕ ਪੁਰਾਣੀ ਹੈ।

4. ਵਿਦਿਆਰਥੀ ਕੁਝ ਬੈਚਾਂ 'ਤੇ ਬੈਠੇ ਹਨ।

Question ID : 441009290144

Option 1 ID : 4410091127510

Option 2 ID : 4410091127512

Option 3 ID : 4410091127509

Option 4 ID : 4410091127511

Status : Answered

Chosen Option : 2

Q.8 English Sentence: I am sorry for not completing the project on time, it will not happen again.
7 What is the correct Punjabi translation?

- Ans 1. ਮੈਨੂੰ ਪ੍ਰੋਜੈਕਟ ਸਮੇਂ ਸਿਰ ਪੂਰਾ ਨਾ ਕਰਨ ਲਈ ਅਫ਼ਸੋਸ ਹੈ, ਇਹ ਦੁਬਾਰਾ ਨਹੀਂ ਹੋਵੇਗਾ।
2. ਮੈਨੂੰ ਸਮੇਂ ਸਿਰ ਪੂਰਾ ਨਾ ਕਰਨ ਲਈ ਅਫ਼ਸੋਸ ਹੈ, ਇਹ ਦੁਬਾਰਾ ਹੋਵੇਗਾ।
3. ਮੈਨੂੰ ਪ੍ਰੋਜੈਕਟ ਸਮੇਂ ਸਿਰ ਪੂਰਾ ਨਾ ਕਰਨ ਲਈ ਅਫ਼ਸੋਸ ਹੈ, ਇਹ ਦੁਬਾਰਾ ਹੋਵੇਗਾ।
4. ਮੈਂ ਆ ਰਿਹਾ ਹਾਂ, ਮਾਫ਼ ਕਰਨਾ ਮੈਂ ਤਿਆਰ ਹਾਂ ਧੰਨਵਾਦ।

Question ID : 441009285840

Option 1 ID : 4410091110454

Option 2 ID : 4410091110457

Option 3 ID : 4410091110455

Option 4 ID : 4410091110456

Status : Answered

Chosen Option : 1

Q.8 'ਉਤਪਤੀ' ਦੇ ਵਿਰੋਧਾਰਥਕ ਸ਼ਬਦ ਦੀ ਚੋਣ ਕਰੋ।
8

- Ans 1. ਵਿਨਾਸ਼
2. ਉਭਾਰ
3. ਮੁੱਢ
4. ਉੱਥਾਨ

Question ID : 441009280839

Option 1 ID : 4410091091275

Option 2 ID : 4410091091277

Option 3 ID : 4410091091276

Option 4 ID : 4410091091278

Status : Answered

Chosen Option : 1

Q.8 ਭਰਮ ਦੇ ਦੋ ਸਹੀ ਸਮਾਨਾਰਥਕ ਸ਼ਬਦ ਚੁਣੋ।
9

- Ans 1. ਵਹਿਮ, ਭੁਲੇਖਾ
2. ਝੂਠ, ਵਹਿਮ
3. ਮੰਦਾ, ਵਹਿਮ
4. ਭੁਲੇਖਾ, ਝੂਠ

Question ID : 441009261831

Option 1 ID : 4410091020132

Option 2 ID : 4410091020131

Option 3 ID : 4410091020134

Option 4 ID : 4410091020133

Status : Answered

Chosen Option : 1

Q.9 0	"ਪੰਜ ਵਿਦਿਆਰਥਣੀਆਂ ਨੇ ਪ੍ਰੀਖਿਆ ਦਿੱਤੀ।" ਇਸ ਵਾਕ ਵਿੱਚ ਸੰਖਿਆ ਦੀ ਦ੍ਰਿਸ਼ਟੀ ਤੋਂ ਇਹ ਹੈ:
Ans	<input checked="" type="checkbox"/> 1. ਗਲਤ
	<input checked="" type="checkbox"/> 2. ਕੋਈ ਨਹੀਂ
	<input checked="" type="checkbox"/> 3. ਸਹੀ
	<input checked="" type="checkbox"/> 4. ਅਣਸੁਚਿਤ

Question ID :	441009283566
Option 1 ID :	4410091101358
Option 2 ID :	4410091101361
Option 3 ID :	4410091101359
Option 4 ID :	4410091101360
Status :	Answered
Chosen Option :	1

Q.9 1	'ਬੁੱਧਵਾਰ' ਹਫ਼ਤੇ ਦਾ ਕਿਹੜਾ ਦਿਨ ਹੁੰਦਾ ਹੈ? (ਨਾਨਕਸ਼ਾਹੀ ਕੈਲੰਡਰ ਅਨੁਸਾਰ)
Ans	<input checked="" type="checkbox"/> 1. ਚੌਥਾ
	<input checked="" type="checkbox"/> 2. ਦੂਜਾ
	<input checked="" type="checkbox"/> 3. ਛੇਵਾਂ
	<input checked="" type="checkbox"/> 4. ਪੰਜਵਾਂ

Question ID :	441009287798
Option 1 ID :	4410091118101
Option 2 ID :	4410091118099
Option 3 ID :	4410091118100
Option 4 ID :	4410091118102
Status :	Answered
Chosen Option :	1

Q.9 2	"ਜਿਸ ਦੀ ਲਾਠੀ ਉਸ ਦੀ ਭੈਂਸ" ਅਖਾਣ ਦਾ ਸਹੀ ਭਾਵ ਕੀ ਹੈ?
Ans	<input checked="" type="checkbox"/> 1. ਪੈਸੇ ਦੀ ਸ਼ਕਤੀ ਹਮੇਸ਼ਾ ਜਿੱਤਦੀ ਹੈ
	<input checked="" type="checkbox"/> 2. ਪਸ਼ੂਆਂ ਦੀ ਦੇਖਭਾਲ ਦੀ ਮਹੱਤਤਾ
	<input checked="" type="checkbox"/> 3. ਜਿਸ ਕੋਲ ਤਾਕਤ ਹੈ, ਉਸਦਾ ਹੀ ਬੋਲਬਾਲਾ ਹੈ
	<input checked="" type="checkbox"/> 4. ਮੇਹਨਤ ਦਾ ਫਲ ਮਿਠਾ ਹੁੰਦਾ ਹੈ

Question ID :	441009298460
Option 1 ID :	4410091160909
Option 2 ID :	4410091160906
Option 3 ID :	4410091160908
Option 4 ID :	4410091160907
Status :	Answered
Chosen Option :	3

Comprehension:

ਹੇਠ ਦਿੱਤਾ ਪੈਰਾ ਪੜ੍ਹੋ ਅਤੇ ਹੇਠਾਂ ਦਿੱਤੇ ਸਵਾਲਾਂ ਦੇ ਜਵਾਬ ਦਿਓ।

ਅੱਜਕੱਲ੍ਹ ਲੋਕਾਂ ਦੀ ਜ਼ਿੰਦਗੀ ਬਹੁਤ ਵਿਅਸਤ ਹੋ ਚੁੱਕੀ ਹੈ। ਹਰ ਕੋਈ ਆਪਣੇ ਕੰਮ ਵਿੱਚ ਲੀਨ ਰਹਿੰਦਾ ਹੈ। ਅਜਿਹੇ ਵਿੱਚ ਕਈ ਵਾਰ ਅਸੀਂ ਆਪਣੀ ਨੈਤਿਕਤਾ ਅਤੇ ਮਨੁੱਖਤਾ ਨੂੰ ਭੁੱਲ ਜਾਂਦੇ ਹਾਂ। ਪਰ ਜੇ ਅਸੀਂ ਨੈਤਿਕ ਮੁੱਲਾਂ ਤੇ ਚੱਲੀਏ, ਤਾਂ ਸਾਡਾ ਜੀਵਨ ਸਿਰਫ਼ ਸਫਲ ਹੀ ਨਹੀਂ, ਸਤਿਕਾਰਯੋਗ ਵੀ ਬਣ ਸਕਦਾ ਹੈ। ਸੱਚਾਈ, ਇਮਾਨਦਾਰੀ, ਦਯਾ, ਸਹਿਣਸ਼ੀਲਤਾ ਆਦਿ ਗੁਣਾਂ ਨਾਲ ਭਰਪੂਰ ਵਿਅਕਤੀ ਸਮਾਜ ਲਈ ਰੋਸ਼ਨੀ ਦਾ ਦੀਵਾ ਬਣ ਜਾਂਦਾ ਹੈ। ਅਸਲ ਖੁਸ਼ੀ ਪੈਸੇ ਜਾਂ ਵੱਡੀ ਸੌਖ ਵਿੱਚ ਨਹੀਂ, ਸਗੋਂ ਦੂਜਿਆਂ ਦੀ ਸੇਵਾ ਕਰਨ ਵਿੱਚ ਹੈ।

SubQuestion No : 93

Q.9 "ਇਮਾਨਦਾਰੀ" ਦਾ ਸਹੀ ਸਮਾਨਾਰਥਕ ਸ਼ਬਦ ਕਿਹੜਾ ਹੈ?

- Ans
- 1. ਧੀਰਜ
 - 2. ਸਚਾਈ
 - 3. ਅਹੰਕਾਰ
 - 4. ਨਰਮੀ

Question ID :	441009287161
Option 1 ID :	4410091115588
Option 2 ID :	4410091115589
Option 3 ID :	4410091115591
Option 4 ID :	4410091115590
Status :	Answered
Chosen Option :	1

Comprehension:

ਹੇਠ ਦਿੱਤਾ ਪੈਰਾ ਪੜ੍ਹੋ ਅਤੇ ਹੇਠਾਂ ਦਿੱਤੇ ਸਵਾਲਾਂ ਦੇ ਜਵਾਬ ਦਿਓ।

ਅੱਜਕੱਲ੍ਹ ਲੋਕਾਂ ਦੀ ਜ਼ਿੰਦਗੀ ਬਹੁਤ ਵਿਅਸਤ ਹੋ ਚੁੱਕੀ ਹੈ। ਹਰ ਕੋਈ ਆਪਣੇ ਕੰਮ ਵਿੱਚ ਲੀਨ ਰਹਿੰਦਾ ਹੈ। ਅਜਿਹੇ ਵਿੱਚ ਕਈ ਵਾਰ ਅਸੀਂ ਆਪਣੀ ਨੈਤਿਕਤਾ ਅਤੇ ਮਨੁੱਖਤਾ ਨੂੰ ਭੁੱਲ ਜਾਂਦੇ ਹਾਂ। ਪਰ ਜੇ ਅਸੀਂ ਨੈਤਿਕ ਮੁੱਲਾਂ ਤੇ ਚੱਲੀਏ, ਤਾਂ ਸਾਡਾ ਜੀਵਨ ਸਿਰਫ਼ ਸਫਲ ਹੀ ਨਹੀਂ, ਸਤਿਕਾਰਯੋਗ ਵੀ ਬਣ ਸਕਦਾ ਹੈ। ਸੱਚਾਈ, ਇਮਾਨਦਾਰੀ, ਦਯਾ, ਸਹਿਣਸ਼ੀਲਤਾ ਆਦਿ ਗੁਣਾਂ ਨਾਲ ਭਰਪੂਰ ਵਿਅਕਤੀ ਸਮਾਜ ਲਈ ਰੋਸ਼ਨੀ ਦਾ ਦੀਵਾ ਬਣ ਜਾਂਦਾ ਹੈ। ਅਸਲ ਖੁਸ਼ੀ ਪੈਸੇ ਜਾਂ ਵੱਡੀ ਸੌਖ ਵਿੱਚ ਨਹੀਂ, ਸਗੋਂ ਦੂਜਿਆਂ ਦੀ ਸੇਵਾ ਕਰਨ ਵਿੱਚ ਹੈ।

SubQuestion No : 94

Q.9 ਹੇਠ ਲਿਖਿਆਂ ਵਿੱਚੋਂ ਕਿਹੜਾ ਗੁਣ ਇਸ ਪੈਰੇ ਅਨੁਸਾਰ ਮਨੁੱਖ ਨੂੰ "ਰੋਸ਼ਨੀ ਦਾ ਦੀਵਾ" ਬਣਾਉਂਦਾ ਹੈ?

- Ans
- 1. ਨੌਕਰੀ
 - 2. ਅਮੀਰੀ
 - 3. ਇਮਾਨਦਾਰੀ
 - 4. ਚਲਾਕੀ

Question ID :	441009287160
Option 1 ID :	4410091115585
Option 2 ID :	4410091115584
Option 3 ID :	4410091115586
Option 4 ID :	4410091115587
Status :	Answered
Chosen Option :	3

Comprehension:

ਹੇਠ ਦਿੱਤਾ ਪੈਰਾ ਪੜ੍ਹੋ ਅਤੇ ਹੇਠਾਂ ਦਿੱਤੇ ਸਵਾਲਾਂ ਦੇ ਜਵਾਬ ਦਿਓ।

ਅੱਜਕੱਲ੍ਹ ਲੋਕਾਂ ਦੀ ਜ਼ਿੰਦਗੀ ਬਹੁਤ ਵਿਅਸਤ ਹੋ ਚੁੱਕੀ ਹੈ। ਹਰ ਕੋਈ ਆਪਣੇ ਕੰਮ ਵਿੱਚ ਲੀਨ ਰਹਿੰਦਾ ਹੈ। ਅਜਿਹੇ ਵਿੱਚ ਕਈ ਵਾਰ ਅਸੀਂ ਆਪਣੀ ਨੈਤਿਕਤਾ ਅਤੇ ਮਨੁੱਖਤਾ ਨੂੰ ਭੁੱਲ ਜਾਂਦੇ ਹਾਂ। ਪਰ ਜੇ ਅਸੀਂ ਨੈਤਿਕ ਮੁੱਲਾਂ ਤੇ ਚੱਲੀਏ, ਤਾਂ ਸਾਡਾ ਜੀਵਨ ਸਿਰਫ਼ ਸਫਲ ਹੀ ਨਹੀਂ, ਸਤਿਕਾਰਯੋਗ ਵੀ ਬਣ ਸਕਦਾ ਹੈ। ਸੱਚਾਈ, ਇਮਾਨਦਾਰੀ, ਦਯਾ, ਸਹਿਣਸ਼ੀਲਤਾ ਆਦਿ ਗੁਣਾਂ ਨਾਲ ਭਰਪੂਰ ਵਿਅਕਤੀ ਸਮਾਜ ਲਈ ਰੋਸ਼ਨੀ ਦਾ ਦੀਵਾ ਬਣ ਜਾਂਦਾ ਹੈ। ਅਸਲ ਖੁਸ਼ੀ ਪੈਸੇ ਜਾਂ ਵੱਡੀ ਸੱਖਣ ਵਿੱਚ ਨਹੀਂ, ਸਗੋਂ ਦੂਜਿਆਂ ਦੀ ਸੇਵਾ ਕਰਨ ਵਿੱਚ ਹੈ।

SubQuestion No : 95

Q.9 ਇਸ ਪੈਰੇ ਦਾ ਮੁੱਖ ਵਿਸ਼ਾ ਕੀ ਹੈ?
5

- Ans
- 1. ਵਿਅਸਤ ਜੀਵਨ ਦੀ ਆਲੋਚਨਾ
 - 2. ਨੈਤਿਕ ਮੁੱਲਾਂ ਦੀ ਮਹੱਤਤਾ
 - 3. ਮਨੋਰੰਜਨ ਦੇ ਢੰਗ
 - 4. ਪੈਸਾ ਕਿਵੇਂ ਕਮਾਇਆ ਜਾਵੇ

Question ID :	441009287159
Option 1 ID :	4410091115582
Option 2 ID :	4410091115581
Option 3 ID :	4410091115583
Option 4 ID :	4410091115580
Status :	Answered
Chosen Option :	2

Section : Digital Literacy and Awareness

Q.9 ਜੇਕਰ ਤੁਸੀਂ ਚਾਹੁੰਦੇ ਹੋ ਕਿ ਇੱਕ ਪੈਰੇ (paragraph) ਵਿੱਚ ਲਾਈਨਾਂ ਇੱਕ ਦੂਜੇ ਦੇ ਨੇੜੇ ਹੋਣ, ਤਾਂ ਹੇਠਾਂ ਦਿੱਤੇ ਲਾਈਨ ਸਪੇਸਿੰਗ ਵਿਕਲਪਾਂ ਵਿੱਚੋਂ ਕਿਹੜਾ ਉਹਨਾਂ ਲਈ ਸਹੀ ਮੁੱਲ ਦਰਸਾਉਂਦਾ ਹੈ? (MS Word ਦਸਤਾਵੇਜ਼ ਨੂੰ ਧਿਆਨ ਵਿੱਚ ਰੱਖੋ)

- Ans
- 1. 1.5
 - 2. 0.9
 - 3. 2.0
 - 4. 1.2

Question ID :	441009107754
Option 1 ID :	441009429028
Option 2 ID :	441009429030
Option 3 ID :	441009429029
Option 4 ID :	441009429027
Status :	Answered
Chosen Option :	2

Q.9 ਹੇਠ ਲਿਖਿਆ ਵਿੱਚੋਂ ਕਿਹੜੇ ਪ੍ਰਕਾਰ ਦਾ ਰਜਿਸਟਰ CPU ਦੁਆਰਾ ਚਲਾਇਆ ਗਿਆ ਮੌਜੂਦਾ ਨਿਰਦੇਸ਼ ਰੱਖਦਾ ਹੈ?

7

Ans 1. ਮੈਮੋਰੀ ਡੇਟਾ ਰਜਿਸਟਰ (MDR)

2. ਨਿਰਦੇਸ਼ ਰਜਿਸਟਰ (IR)

3. ਮੈਮੋਰੀ ਐਡਰੈੱਸ ਰਜਿਸਟਰ (MAR)

4. ਪ੍ਰੋਗਰਾਮ ਕਾਊਂਟਰ (PC)

Question ID : 44100999645

Option 1 ID : 441009396528

Option 2 ID : 441009396526

Option 3 ID : 441009396527

Option 4 ID : 441009396525

Status : Answered

Chosen Option : 1

Q.9 ਈਮੇਲ ਸੁਨੇਹੇ ਦੇ ਸਿਰਲੇਖ ਵਿੱਚ "From" ਖੇਤਰ ਕੀ ਦਰਸਾਉਂਦਾ ਹੈ?

8

Ans 1. ਪ੍ਰਾਇਮਰੀ ਰਸੀਦਾਂ ਦਾ ਈ-ਮੇਲ ਪਤਾ

2. ਅਸਲ ਭੇਜਣ ਵਾਲੇ ਦਾ ਈ-ਮੇਲ ਪਤਾ

3. ਇਸਨੂੰ ਇਹ ਨਿਰਧਾਰਤ ਕਰਨ ਲਈ ਵਰਤਿਆ ਜਾਂਦਾ ਹੈ ਕਿ ਭੇਜਣ ਵਾਲੇ ਤੱਕ ਵਾਪਿਸ ਕਿਵੇਂ ਜਾਣਾ ਹੈ

4. ਪ੍ਰਾਪਤਕਰਤਾ ਦੀ ਈਮੇਲ ਆਈਡੀ

Question ID : 441009104060

Option 1 ID : 441009414434

Option 2 ID : 441009414436

Option 3 ID : 441009414437

Option 4 ID : 441009414435

Status : Answered

Chosen Option : 4

Q.9 MS ਪਾਵਰਪੁਆਇੰਟ ਵਿੱਚ "ਸਲਾਈਡ ਸੋਰਟਰ" ਵਿਊ ਦਾ ਕੀ ਉਦੇਸ਼ ਹੈ?

9

Ans 1. ਪ੍ਰੇਜ਼ੈਂਟੇਸ਼ਨ ਵਿੱਚ ਸਾਰੀਆਂ ਸਲਾਈਡਾਂ ਦੇ ਥੰਬਨੇਲ ਦੇਖਣ ਲਈ, ਉਹਨਾਂ ਨੂੰ ਮੁੜ ਕ੍ਰਮਬੱਧ ਕਰਨਾ ਅਤੇ ਪ੍ਰਬੰਧਿਤ ਕਰਨਾ ਆਸਾਨ ਬਣਾਉਣ ਲਈ

2. ਵਿਅਕਤੀਗਤ ਸਲਾਈਡਾਂ ਦੀ ਸਮੱਗਰੀ ਨੂੰ ਵਿਸਥਾਰ ਵਿੱਚ ਐਡਿਟ ਕਰਨ ਲਈ

3. ਹਰੇਕ ਸਲਾਈਡ ਵਿੱਚ ਸਪੀਕਰ ਨੋਟਸ ਜੋੜਨ ਲਈ

4. ਸਲਾਈਡਸ਼ੋਅ ਨੂੰ ਦਰਸ਼ਕਾਂ ਸਾਹਮਣੇ ਪੇਸ਼ ਕਰਨ ਲਈ

Question ID : 441009134570

Option 1 ID : 441009534954

Option 2 ID : 441009534953

Option 3 ID : 441009534955

Option 4 ID : 441009534952

Status : Answered

Chosen Option : 4

Q.1 ਕੰਪਿਊਟਰ ਸੈਕੰਡਰੀ ਮੈਮੋਰੀ ਡਾਟੇ ਅਤੇ ਪ੍ਰੋਗਰਾਮਾਂ ਨੂੰ ਸਥਾਈ ਤੌਰ 'ਤੇ ਸਟੋਰ ਕਰਦੀ ਹੈ, ਭਾਵੇਂ ਕੰਪਿਊਟਰ ਬੰਦ ਵੀ ਹੋਵੇ। ਹੇਠ ਲਿਖਿਆਂ ਵਿੱਚੋਂ ਉਸ ਸੈਕੰਡਰੀ ਮੈਮੋਰੀ ਕਿਸਮ ਦੀ ਪਛਾਣ ਕਰੋ।

Ans 1. DDR

2. USB ਫਲੈਸ਼ ਡਰਾਈਵ (ਪੈਨ ਡਰਾਈਵ)

3. ਫਲੈਸ਼ ਰੋਮ

4. SRAM

Question ID : 44100999632

Option 1 ID : 441009396473

Option 2 ID : 441009396476

Option 3 ID : 441009396475

Option 4 ID : 441009396474

Status : Not Answered

Chosen Option : --

Section : Qualifying Paper of Punjabi Language

Q.1 ਸਹੀ ਵਿਕਲਪ ਦੀ ਚੋਣ ਕਰੋ:

Ans 1. "ਅਸੀਂ ਬਜ਼ਾਰ ਗਏ" ਸਮਾਨ ਖਰੀਦਿਆ ਤੇ ਆ ਗਏ।

2. ਅਸੀਂ ਬਜ਼ਾਰ ਗਏ ! ਸਮਾਨ ਖਰੀਦਿਆ ਤੇ ਆ ਗਏ।

3. ਅਸੀਂ ਬਜ਼ਾਰ ਗਏ, ਸਮਾਨ ਖਰੀਦਿਆ ਤੇ ਆ ਗਏ।

4. ਅਸੀਂ ਬਜ਼ਾਰ ਗਏ ਸਮਾਨ ਖਰੀਦਿਆ ਤੇ ਆ ਗਏ।

Question ID : 441009305617

Option 1 ID : 4410091189212

Option 2 ID : 4410091189210

Option 3 ID : 4410091189211

Option 4 ID : 4410091189213

Status : Answered

Chosen Option : 3

Q.2 English Sentence: "Do you still have that dark brown colored leather bag?"
Which of the following is perfect translation?

Ans 1. ਕੀ ਤੁਹਾਡੇ ਕੋਲ ਅਜੇ ਵੀ ਉਹ ਗੂੜ੍ਹੇ ਭੂਰੇ ਰੰਗ ਵਾਲਾ ਚਮੜੇ ਦਾ ਬੈਗ ਹੈ?

2. ਕੀ ਤੁਹਾਡੇ ਕੋਲ ਅਜੇ ਵੀ ਉਹ ਗੂੜ੍ਹੇ ਬ੍ਰਾਊਨ ਰੰਗ ਦਾ ਚਮੜੇ ਦਾ ਬੈਗ ਹੈ?

3. ਕੀ ਤਿਹਾਡੇ ਕੋਲ ਅਜੇ ਵੀ ਉਹ ਗੂੜ੍ਹੇ ਬੂਰੇ ਰੰਗ ਵਾਲਾ ਚਮੜੇ ਦਾ ਬੈਗ ਹੈ?

4. ਕੀ ਤੁਹਾਡੇ ਕੋਲ ਅਜੇ ਵੀ ਉਹ ਗੂੜ੍ਹੇ ਭੂਰੇ ਰੰਗ ਦਾ ਚਮੜੇ ਦਾ ਬੈਗ ਹੈ?

Question ID : 441009267151

Option 1 ID : 4410091037866

Option 2 ID : 4410091037865

Option 3 ID : 4410091037867

Option 4 ID : 4410091037864

Status : Answered

Chosen Option : 1

Q.3 ਹੇਠ ਦਿੱਤੇ ਸਵਾਲ ਵਿੱਚ, ਦਿੱਤੇ ਗਏ ਚਾਰ ਵਿਕਲਪਾਂ ਵਿੱਚੋਂ, ਉਹ ਵਿਕਲਪ ਚੁਣੋ ਜੋ ਮੁਹਾਵਰੇ/ਵਾਕਾਂਸ਼ ਦੇ ਅਰਥ ਨੂੰ ਸਭ ਤੋਂ ਵਧੀਆ ਢੰਗ ਨਾਲ ਪ੍ਰਗਟ ਕਰਦਾ ਹੈ।

ਆਪਣਾ ਰੰਗ ਦਿਖਾਉਣਾ

- Ans
- 1. ਨੱਚਣਾ
 - 2. ਅਸਲੀ ਸੁਭਾਅ ਬਾਹਰ ਆਉਣਾ
 - 3. ਰੰਗਾਂ ਨਾਲ ਖੇਡਣਾ
 - 4. ਖੁਸ਼ ਹੋਣਾ

Question ID : 441009305704

Option 1 ID : 4410091189565

Option 2 ID : 4410091189563

Option 3 ID : 4410091189562

Option 4 ID : 4410091189564

Status : Answered

Chosen Option : 2

Q.4 ਦਿੱਤੇ ਗਏ ਸ਼ਬਦ ਦਾ ਸਭ ਤੋਂ ਢੁਕਵਾਂ ਵਿਰੋਧਾਰਥਕ ਸ਼ਬਦ ਚੁਣੋ।
ਉੱਚਾ

- Ans
- 1. ਸਾਫ਼
 - 2. ਲੰਮਾ
 - 3. ਨੀਵਾਂ
 - 4. ਮੋਟਾ

Question ID : 441009287490

Option 1 ID : 4410091116891

Option 2 ID : 4410091116890

Option 3 ID : 4410091116889

Option 4 ID : 4410091116888

Status : Answered

Chosen Option : 3

Q.5 "ਮੁੰਡਾ ਤੇਜ਼ੀ ਨਾਲ ਦੌੜਿਆ।" ਇਸ ਵਾਕ ਵਿੱਚ 'ਤੇਜ਼ੀ ਨਾਲ' ਕੀ ਹੈ?

- Ans
- 1. ਯੋਜਕ
 - 2. ਕਿਰਿਆ ਵਿਸ਼ੇਸ਼ਣ
 - 3. ਵਿਸ਼ੇਸ਼ਣ
 - 4. ਨਾਂਵ

Question ID : 441009274947

Option 1 ID : 4410091068056

Option 2 ID : 4410091068054

Option 3 ID : 4410091068055

Option 4 ID : 4410091068053

Status : Answered

Chosen Option : 3

Q.6 ਹੇਠ ਲਿਖੇ ਵਿਕਲਪਾਂ ਵਿੱਚੋਂ ਸਹੀ ਇਸਤਰੀ ਲਿੰਗ ਦੀ ਚੋਣ ਕਰੋ:-

- Ans
- 1. ਘੋੜਾ
 - 2. ਚਿੜੀ
 - 3. ਮੋਰ
 - 4. ਖਰਗੋਸ਼

Question ID :	441009260935
Option 1 ID :	4410091017138
Option 2 ID :	4410091017140
Option 3 ID :	4410091017137
Option 4 ID :	4410091017139
Status :	Answered
Chosen Option :	2

Q.7ਪਿਆਰਾ ਹੈਪਿਆਰਾ ਨਹੀਂ।- ਅਖਾਣ ਪੂਰਾ ਕਰੋ।

- Ans
- 1. ਮੁੰਡਾ/ਜਵਾਈ
 - 2. ਪਤੀ/ਪਰਿਵਾਰ
 - 3. ਸੰਗ/ਕੰਮ
 - 4. ਕੰਮ/ ਚੰਮ

Question ID :	441009274451
Option 1 ID :	4410091066103
Option 2 ID :	4410091066104
Option 3 ID :	4410091066105
Option 4 ID :	4410091066102
Status :	Answered
Chosen Option :	4

Q.8 65' ਨੂੰ ਪੰਜਾਬੀ ਵਿੱਚ ਕਿਵੇਂ ਲਿਖਿਆ ਜਾਂਦਾ ਹੈ?

- Ans
- 1. ਪੈਂਟ
 - 2. ਪੈਂਟ
 - 3. ਪੈਂਠ
 - 4. ਪੈਂਠ

Question ID :	441009287547
Option 1 ID :	4410091117114
Option 2 ID :	4410091117115
Option 3 ID :	4410091117113
Option 4 ID :	4410091117112
Status :	Answered
Chosen Option :	1

Q.9	ਨਿਰ-' ਅਗੇਤਰ ਦਾ ਅਰਥ ਹੈ
Ans	<input checked="" type="checkbox"/> 1. ਵਧੀਆ <input checked="" type="checkbox"/> 2. ਰਹਿਤ <input checked="" type="checkbox"/> 3. ਨਵਾਂ <input checked="" type="checkbox"/> 4. ਸਹਿਤ

Question ID :	441009298518
Option 1 ID :	4410091161132
Option 2 ID :	4410091161131
Option 3 ID :	4410091161133
Option 4 ID :	4410091161130
Status :	Answered
Chosen Option :	2

Q.1	ਹੇਠਾਂ ਦਿੱਤਿਆਂ ਵਿੱਚੋਂ ਕਿਹੜਾ ਦਿਨ ਵਿਅਕਤ ਅਨੁਸਾਰ ਠੀਕ ਲਿਖਿਆ ਗਿਆ ਹੈ?
0	
Ans	<input checked="" type="checkbox"/> 1. ਸੋਮਵਾਰ <input checked="" type="checkbox"/> 2. ਸੋਮਵਾਰੂ <input checked="" type="checkbox"/> 3. ਸੂਮਵਾਰ <input checked="" type="checkbox"/> 4. ਸੋਮਵਾਰ

Question ID :	441009274844
Option 1 ID :	4410091067659
Option 2 ID :	4410091067660
Option 3 ID :	4410091067658
Option 4 ID :	4410091067657
Status :	Answered
Chosen Option :	4

Q.1	ਦਿੱਤੇ ਗਏ ਸ਼ਬਦਾਂ ਵਿੱਚੋਂ ਉਹ ਸ਼ਬਦ ਚੁਣੋ ਜਿਸ ਵਿੱਚ ਅਗੇਤਰ ਨਾ ਹੋਵੇ।
1	
Ans	<input checked="" type="checkbox"/> 1. ਅਨੁਸ਼ਾਸਨ <input checked="" type="checkbox"/> 2. ਬੇਕਦਰ <input checked="" type="checkbox"/> 3. ਸਾਫ਼ <input checked="" type="checkbox"/> 4. ਨਿਰਦੇਸ਼

Question ID :	441009287610
Option 1 ID :	4410091117355
Option 2 ID :	4410091117357
Option 3 ID :	4410091117356
Option 4 ID :	4410091117358
Status :	Answered
Chosen Option :	3

Q.1 "ਅਕਲ 'ਤੇ ਪਰਦਾ ਪੈਣਾ" ਮੁਹਾਵਰੇ ਤੋਂ ਕੀ ਭਾਵ ਹੈ?
2

- Ans
- 1. ਮਨੋਰੋਗੀ ਹੋਣਾ
 - 2. ਸਿਆਣੀ ਗੱਲ ਕਰਨਾ
 - 3. ਮੱਤ ਮਾਰੀ ਜਾਣੀ
 - 4. ਕਿਸੇ ਗੱਲ ਦਾ ਪਰਦਾ ਰੱਖਣਾ

Question ID : 441009280962

Option 1 ID : 4410091091776

Option 2 ID : 4410091091778

Option 3 ID : 4410091091775

Option 4 ID : 4410091091777

Status : Answered

Chosen Option : 3

Q.1 ਹੇਠ ਦਿੱਤੇ ਵਿਕਲਪਾਂ ਵਿੱਚੋਂ ਕਿਹੜਾ ਸ਼ਬਦ ਇਸਤਰੀ-ਲਿੰਗ ਨਹੀਂ ਹੈ?
3

- Ans
- 1. ਬਾਣ
 - 2. ਛਲ
 - 3. ਛੱਲ
 - 4. ਕੰਧ

Question ID : 441009287167

Option 1 ID : 4410091115613

Option 2 ID : 4410091115615

Option 3 ID : 4410091115612

Option 4 ID : 4410091115614

Status : Answered

Chosen Option : 4

Q.1 'ਜਿਹੜੇ ਸ਼ਬਦ ਮੂਲ ਧਾਤੂ ਦੇ ਪਿੱਛੇ ਲੱਗ ਕੇ ਨਵੇਂ ਸ਼ਬਦ ਬਣਾਉਂਦੇ ਹਨ' ਨੂੰ ਕੀ ਕਿਹਾ ਜਾਂਦਾ ਹੈ?
4

- Ans
- 1. ਅਗੇਤਰ
 - 2. ਪੜਨਾਵ
 - 3. ਪਿਛੇਤਰ
 - 4. ਨਾਵ

Question ID : 441009287128

Option 1 ID : 4410091115465

Option 2 ID : 4410091115466

Option 3 ID : 4410091115467

Option 4 ID : 4410091115464

Status : Answered

Chosen Option : 1

Q.1 ਕੰਘਾ ਹੋ ਜਾਣਾ ਦਾ ਸਹੀ ਅਰਥ ਕੀ ਹੈ?
5

- Ans
- 1. ਬਰਬਾਦ ਹੋ ਜਾਣਾ
 - 2. ਕੰਘੀ ਵਾਹੁਣੀ
 - 3. ਵਾਲ ਵਾਹੁਣੇ
 - 4. ਨਫ਼ਰਤ ਕਰਨੀ

Question ID :	441009284539
Option 1 ID :	4410091105216
Option 2 ID :	4410091105217
Option 3 ID :	4410091105214
Option 4 ID :	4410091105215
Status :	Answered
Chosen Option :	4

Q.1 "ਹਿਸਿਆਂਦਾਰ" ਦੀ ਠੀਕ ਰੂਪ ਚੁਣੋ
6

- Ans
- 1. ਹਿਸੇਅੰਦਰ
 - 2. ਹਿਸੇਦਾਰ
 - 3. ਹਿੱਸੇਦਾਰ
 - 4. ਹਿਸਿਆਂਦਾਰ

Question ID :	441009269455
Option 1 ID :	4410091047017
Option 2 ID :	4410091047016
Option 3 ID :	4410091047014
Option 4 ID :	4410091047015
Status :	Answered
Chosen Option :	3

Q.1 ਦਿੱਤੇ ਗਏ ਮਹੀਨਿਆਂ ਵਿੱਚੋਂ ਕਿਹੜੇ ਮਹੀਨੇ ਦਾ ਸ਼ਬਦ ਜੋੜ ਗ਼ਲਤ ਹੈ?
7

- Ans
- 1. ਜਨਵਰੀ
 - 2. ਮਾਰਚ
 - 3. ਅਪ੍ਰੈਲ
 - 4. ਫਰਵਰ

Question ID :	441009288034
Option 1 ID :	4410091119035
Option 2 ID :	4410091119037
Option 3 ID :	4410091119038
Option 4 ID :	4410091119036
Status :	Answered
Chosen Option :	4

Q.1	ਸੁੱਧ ਰੂਪ ਚੁਣੋ
8	
Ans	<input checked="" type="checkbox"/> 1. ਧਨਜਵਾਦ
	<input checked="" type="checkbox"/> 2. ਧਨਵਾਦ
	<input checked="" type="checkbox"/> 3. ਧੰਨਜਵਾਦ
	<input checked="" type="checkbox"/> 4. ਧੰਨਵਾਦ

Question ID :	441009299799
Option 1 ID :	4410091166299
Option 2 ID :	4410091166297
Option 3 ID :	4410091166298
Option 4 ID :	4410091166296
Status :	Answered
Chosen Option :	4

Q.1	ਹੇਠ ਦਿੱਤੇ ਸਵਾਲ ਵਿੱਚ, ਦਿੱਤੇ ਗਏ ਚਾਰ ਵਿਕਲਪਾਂ ਵਿੱਚੋਂ, ਉਹ ਵਿਕਲਪ ਚੁਣੋ ਜੋ ਮੁਹਾਵਰੇ/ਵਾਕਾਂਸ਼ ਦੇ ਅਰਥ ਨੂੰ ਸਭ ਤੋਂ ਵਧੀਆ ਢੰਗ ਨਾਲ ਪ੍ਰਗਟ ਕਰਦਾ ਹੈ। ਹੱਥ ਧੋ ਕੇ ਪਿੱਛੇ ਪੈ ਜਾਣਾ
9	
Ans	<input checked="" type="checkbox"/> 1. ਪਿਆਰ ਕਰਨਾ
	<input checked="" type="checkbox"/> 2. ਮਦਦ ਕਰਨੀ
	<input checked="" type="checkbox"/> 3. ਬਦਲਾ ਲੈਣਾ
	<input checked="" type="checkbox"/> 4. ਪੂਰੀ ਕੋਸ਼ਿਸ਼ ਕਰਨਾ

Question ID :	441009287436
Option 1 ID :	4410091116676
Option 2 ID :	4410091116679
Option 3 ID :	4410091116678
Option 4 ID :	4410091116677
Status :	Answered
Chosen Option :	3

Q.2	ਬਾਂਹ ਸ਼ਬਦ ਦਾ ਬਹੁਵਚਨ ਸ਼ਬਦ ਚੁਣੋ।
0	
Ans	<input checked="" type="checkbox"/> 1. ਬਾਂਹਾਂ
	<input checked="" type="checkbox"/> 2. ਬਾਂਹੇ
	<input checked="" type="checkbox"/> 3. ਬਾਂਹੀਆਂ
	<input checked="" type="checkbox"/> 4. ਬਾਂਹੇ

Question ID :	441009288110
Option 1 ID :	4410091119340
Option 2 ID :	4410091119342
Option 3 ID :	4410091119341
Option 4 ID :	4410091119339
Status :	Answered
Chosen Option :	1

Q.2 ਦਿੱਤੇ ਹੋਏ ਵਾਕ 'ਵੱਡਾ ਮੁੰਡਾ ਕੌਲੀ ਵਿਚ ਚੌਲ ਪਾ ਕੇ ਖਾ ਰਿਹਾ ਹੈ।' ਵਿਚ ਵਚਨ ਬਦਲੀ ਵਾਲਾ ਸਹੀ ਵਿਕਲਪ ਚੁਣੋ।

1

Ans 1. ਵੱਡੇ ਮੁੰਡੇ ਕੌਲੀਆਂ ਵਿਚ ਚੌਲ ਪਾ ਕੇ ਖਾ ਰਹੇ ਹਨ।

2. ਵੱਡੇ ਮੁੰਡੇ ਕੌਲੀਆਂ ਵਿਚ ਚੌਲ ਪਾ ਕੇ ਖਾ ਰਿਹਾ ਹਨ।

3. ਵੱਡੇ ਮੁੰਡੇ ਕੌਲੀ ਵਿਚ ਚੌਲ ਪਾ ਕੇ ਖਾ ਰਿਹਾ ਹੈ।

4. ਵੱਡਾ ਮੁੰਡਾ ਕੌਲੀ ਵਿਚ ਚੌਲ ਪਾ ਕੇ ਖਾ ਰਿਹਾ ਹਨ।

Question ID : 441009287138

Option 1 ID : 4410091115507

Option 2 ID : 4410091115506

Option 3 ID : 4410091115505

Option 4 ID : 4410091115504

Status : Answered

Chosen Option : 1

Q.2 ਹੇਠ ਦਿੱਤੇ ਸਵਾਲ ਵਿੱਚ, ਦਿੱਤੇ ਗਏ ਚਾਰ ਵਿਕਲਪਾਂ ਵਿੱਚੋਂ, ਉਹ ਵਿਕਲਪ ਚੁਣੋ ਜੋ ਮੁਹਾਵਰੇ/ਵਾਕਾਂਸ਼ ਦੇ ਅਰਥ ਨੂੰ ਸਭ ਤੋਂ ਵਧੀਆ ਢੰਗ ਨਾਲ ਪ੍ਰਗਟ ਕਰਦਾ ਹੈ।

2

ਮਹਿਸੂਸ ਕਰਨਾ ਅਤੇ ਪਰਖਣਾ

Ans 1. ਕੁੱਝ ਕਰਨਾ

2. ਸੰਸਕਾਰਾਂ ਦਾ ਅਦਾਨ-ਪ੍ਰਦਾਨ

3. ਪਿਆਰ ਭਰੀ ਮਦਦ

4. ਸਥਿਤੀ ਦੇ ਅਨੁਸਾਰ ਫ਼ੈਸਲਾ ਕਰਨਾ

Question ID : 441009287024

Option 1 ID : 4410091115059

Option 2 ID : 4410091115058

Option 3 ID : 4410091115056

Option 4 ID : 4410091115057

Status : Answered

Chosen Option : 4

Q.2 ਸਹੀ ਸਮਾਨਾਰਥਕ ਜੋੜਾ ਚੁਣੋ

3

Ans 1. ਮੋਟਾ / ਪਤਲਾ

2. ਖੜਕਣਾ / ਬੂਟ

3. ਗੜਬੜ / ਗੱਲ

4. ਸਪੱਸ਼ਟ / ਸਾਫ

Question ID : 441009294079

Option 1 ID : 4410091143258

Option 2 ID : 4410091143260

Option 3 ID : 4410091143257

Option 4 ID : 4410091143259

Status : Answered

Chosen Option : 4

Q.2 4	ਅੰਗਰੇਜ਼ੀ ਵਿੱਚ ਦਿੱਤੇ ਸ਼ਬਦ ਦਾ ਪੰਜਾਬੀ ਵਿੱਚ ਅਨੁਵਾਦ ਕਰੋ। Dance
Ans	<p>✓ 1. ਨਾਚ</p> <p>✗ 2. ਭੰਗੜਾ</p> <p>✗ 3. ਫਿਲਮ</p> <p>✗ 4. ਡਰਾਮਾ</p>

Question ID :	441009308739
Option 1 ID :	4410091201633
Option 2 ID :	4410091201635
Option 3 ID :	4410091201634
Option 4 ID :	4410091201632
Status :	Answered
Chosen Option :	1

Q.2 5	ਹੇਠ ਲਿਖੇ ਵਿਕਲਪਾਂ ਵਿੱਚੋਂ 'ਅਗੋਤਰ' ਅਤੇ 'ਮੂਲ ਸ਼ਬਦ' ਦੇ ਸਹੀ ਜੁੱਟ ਦੀ ਪਛਾਣ ਕਰੋ:
Ans	<p>✗ 1. ਆਦਮ - ਅਗੋਤਰ, ਖੋਰ - ਮੂਲ ਸ਼ਬਦ</p> <p>✗ 2. ਜਾਦੂ - ਅਗੋਤਰ, ਗਰ - ਮੂਲ ਸ਼ਬਦ</p> <p>✗ 3. ਨਾਰਾਜ਼ - ਅਗੋਤਰ, ਰੀ - ਮੂਲ ਸ਼ਬਦ</p> <p>✓ 4. ਬੇ - ਅਗੋਤਰ, ਸੁਮਾਰ - ਮੂਲ ਸ਼ਬਦ</p>

Question ID :	441009274866
Option 1 ID :	4410091067743
Option 2 ID :	4410091067742
Option 3 ID :	4410091067745
Option 4 ID :	4410091067744
Status :	Answered
Chosen Option :	4

Q.2 6	ਅੱਛਾ ਤੇਰੇ ਮਾਤਾ ਜੀ ਵੀ ਐਮ. ਏ. ਹਨ - ਸਹੀ ਵਿਸ਼ਰਾਮ ਚਿੰਨ੍ਹ ਵਾਲਾ ਵਾਕ ਦੱਸੋ
Ans	<p>✗ 1. ਅੱਛਾ ਤੇਰੇ ਮਾਤਾ ਜੀ ਵੀ ਐਮ. ਏ. ਹਨ।</p> <p>✗ 2. ਅੱਛਾ? ਤੇਰੇ ਮਾਤਾ ਜੀ ਵੀ ਐਮ. ਏ. ਹਨ।</p> <p>✗ 3. ਅੱਛਾ, ਤੇਰੇ ਮਾਤਾ ਜੀ ਵੀ ਐਮ. ਏ. ਹਨ।</p> <p>✓ 4. ਅੱਛਾ! ਤੇਰੇ ਮਾਤਾ ਜੀ ਵੀ ਐਮ. ਏ. ਹਨ।</p>

Question ID :	441009269364
Option 1 ID :	4410091046665
Option 2 ID :	4410091046663
Option 3 ID :	4410091046664
Option 4 ID :	4410091046662
Status :	Answered
Chosen Option :	4

Q.2 ਪੁਲਿੰਗ ਸ਼ਬਦਾਂ ਦਾ ਸਹੀ ਵਿਕਲਪ ਚੁਣੋ:

7

- Ans
- 1. ਘੋੜਾ, ਤੋਤਾ, ਚਾਚਾ
 - 2. ਮੋਰ, ਫੌਜੀ, ਧਰਤੀ
 - 3. ਸਬਜ਼ੀ, ਫਲ, ਕੁਰਸੀ
 - 4. ਲੜਕਾ, ਦਾਦੀ, ਭੈਣ

Question ID : 441009287155

Option 1 ID : 4410091115568

Option 2 ID : 4410091115571

Option 3 ID : 4410091115569

Option 4 ID : 4410091115570

Status : Answered

Chosen Option : 3

Q.2 ਹੇਠ ਲਿਖਿਆਂ ਵਿੱਚੋਂ ਸ਼ੁੱਧ ਸ਼ਬਦ ਚੁਣੋ

8

- Ans
- 1. ਮੰਦਿਰਾ
 - 2. ਮੰਦਿਰ
 - 3. ਮੰਦਰਿ
 - 4. ਮੰਦਰ

Question ID : 441009298596

Option 1 ID : 4410091161437

Option 2 ID : 4410091161435

Option 3 ID : 4410091161434

Option 4 ID : 4410091161436

Status : Answered

Chosen Option : 2

Q.2 ਹੇਠਲੇ ਵਿਕਲਪਾਂ ਵਿੱਚੋਂ ਯਕੀਨ ਦਾ ਵਿਰੋਧੀ ਸ਼ਬਦ ਕੀ ਹੈ?

9

- Ans
- 1. ਸ਼ੱਕ
 - 2. ਵਿਸ਼ਵਾਸ
 - 3. ਪਿਆਰ
 - 4. ਭਰੋਸਾ

Question ID : 441009262997

Option 1 ID : 4410091024536

Option 2 ID : 4410091024537

Option 3 ID : 4410091024535

Option 4 ID : 4410091024534

Status : Answered

Chosen Option : 1

Q.3 0	ਜਿੱਥੇ ਫੁੱਲ -ਬੂਟੇ ਉੱਗੇ ਹੋਣ- ਬਹੁਤੇ ਸ਼ਬਦਾਂ ਦੀ ਥਾਂ ਇੱਕ ਸ਼ਬਦ ਚੁਣੋ
Ans	<input checked="" type="checkbox"/> 1. ਦੁਕਾਨ
	<input checked="" type="checkbox"/> 2. ਘਰ
	<input checked="" type="checkbox"/> 3. ਬਗੀਚਾ
	<input checked="" type="checkbox"/> 4. ਮਕਾਨ

Question ID :	441009305189
Option 1 ID :	4410091187453
Option 2 ID :	4410091187451
Option 3 ID :	4410091187450
Option 4 ID :	4410091187452
Status :	Answered
Chosen Option :	3

Q.3 1	ਹੇਠ ਦਿੱਤੇ ਸਵਾਲ ਵਿੱਚ, ਦਿੱਤੇ ਗਏ ਚਾਰ ਵਿਕਲਪਾਂ ਵਿੱਚੋਂ, ਉਹ ਵਿਕਲਪ ਚੁਣੋ ਜੋ ਮੁਹਾਵਰੇ/ਵਾਕਾਂਸ਼ ਦੇ ਅਰਥ ਨੂੰ ਸਭ ਤੋਂ ਵਧੀਆ ਢੰਗ ਨਾਲ ਪ੍ਰਗਟ ਕਰਦਾ ਹੈ। ਮੂੰਹ ਵਿੱਚ ਰਾਮ, ਬਗਲ ਵਿੱਚ ਫੂਰੀ
Ans	<input checked="" type="checkbox"/> 1. ਅਸਲੀ ਦੇਸਤ
	<input checked="" type="checkbox"/> 2. ਸੱਚਾ ਹੋਣਾ
	<input checked="" type="checkbox"/> 3. ਪਿਆਰ ਕਰਨ
	<input checked="" type="checkbox"/> 4. ਧੋਖਾ ਦੇਣ

Question ID :	441009286783
Option 1 ID :	4410091114100
Option 2 ID :	4410091114101
Option 3 ID :	4410091114102
Option 4 ID :	4410091114103
Status :	Answered
Chosen Option :	4

Q.3 2	"Down in the dumps" ਦਾ ਸਹੀ ਅਰਥ ਕੀ ਹੈ?
Ans	<input checked="" type="checkbox"/> 1. ਹੱਕ ਹਲਾਲ
	<input checked="" type="checkbox"/> 2. ਖੁਸ਼ਦਿਲ, ਖੁਸ਼ਨੁਮਾ
	<input checked="" type="checkbox"/> 3. ਹਤਾਸ਼, ਪਰੇਸ਼ਾਨ
	<input checked="" type="checkbox"/> 4. ਬੇਬਾਕ, ਬੇਅਦਬ

Question ID :	441009274119
Option 1 ID :	4410091064812
Option 2 ID :	4410091064811
Option 3 ID :	4410091064810
Option 4 ID :	4410091064813
Status :	Answered
Chosen Option :	3

Q.3	ਕਚਾਲੂ ਸ਼ਬਦ ਦਾ ਵਚਨ ਬਦਲੋ:
3	
Ans	✓ 1. ਕਚਾਲੂਆਂ
	✗ 2. ਕਚਾਲੂਈ
	✗ 3. ਕਚਾਲੂ
	✗ 4. ਕਚਾਲੂਏਂ

Question ID :	441009287135
Option 1 ID :	4410091115493
Option 2 ID :	4410091115495
Option 3 ID :	4410091115492
Option 4 ID :	4410091115494
Status :	Answered
Chosen Option :	1

Q.3	ਹੇਠ ਲਿਖਿਆਂ ਵਿੱਚੋਂ ਕਿਹੜਾ ਉਪਸਰਗ "ਸਹਿਯੋਗ" ਵਿੱਚ ਵਰਤਿਆ ਗਿਆ ਹੈ?
4	
Ans	✗ 1. ਯੋਗ
	✓ 2. ਸਹਿ
	✗ 3. ਸਹਿਯ
	✗ 4. ਸਹਿਯੋ

Question ID :	441009271298
Option 1 ID :	4410091054028
Option 2 ID :	4410091054027
Option 3 ID :	4410091054030
Option 4 ID :	4410091054029
Status :	Answered
Chosen Option :	2

Q.3	Meaning of "Diligent"
5	
	What is the appropriate meaning in Punjabi of the word "diligent" in the following sentence? She is a very diligent student who always completes her work on time.
Ans	✗ 1. ਸ਼ਰਾਰਤੀ
	✗ 2. ਲਾਪਰਵਾਹ
	✗ 3. ਸੁਸਤ
	✓ 4. ਮਿਹਨਤੀ

Question ID :	441009267070
Option 1 ID :	4410091037550
Option 2 ID :	4410091037549
Option 3 ID :	4410091037547
Option 4 ID :	4410091037548
Status :	Answered
Chosen Option :	4

Q.3 "ਸ਼ਕੋਤ" ਦਾ ਸਹੀ ਰੂਪ ਕੀ ਹੈ?
6

- Ans
- 1. ਸ਼ਾਕਇਤ
 - 2. ਸ਼ੈਕਅਤ
 - 3. ਸ਼ੈਕਾਇਤ
 - 4. ਸ਼ਿਕਾਇਤ

Question ID : 441009274814

Option 1 ID : 4410091067538

Option 2 ID : 4410091067539

Option 3 ID : 4410091067537

Option 4 ID : 4410091067540

Status : Answered

Chosen Option : 4

Q.3 ਸਹੀ ਵਿਸਰਾਮ ਚਿੰਨ੍ਹ ਦੀ ਵਰਤੋਂ ਵਾਲਾ ਵਾਕ ਚੁਣੋ।
7

- Ans
- 1. ਸਭ . ਜਾਣਦੇ ਹਨ ਪੜ੍ਹਨਾ ਚੰਗਾ ਕੰਮ ਹੈ
 - 2. ਸਭ ਜਾਣਦੇ ਹਨ ਪੜ੍ਹਨਾ , ਚੰਗਾ ਕੰਮ ਹੈ
 - 3. ਸਭ ਜਾਣਦੇ ਹਨ ਪੜ੍ਹਨਾ ਚੰਗਾ ਕੰਮ ਹੈ
 - 4. ਸਭ ਜਾਣਦੇ ਹਨ , ਪੜ੍ਹਨਾ ਚੰਗਾ ਕੰਮ ਹੈ

Question ID : 441009287737

Option 1 ID : 4410091117861

Option 2 ID : 4410091117860

Option 3 ID : 4410091117859

Option 4 ID : 4410091117862

Status : Answered

Chosen Option : 4

Q.3 "ਜਿਥੇ ਚਾਹ, ਉਥੇ ਰਾਹ" ਦਾ ਕੀ ਅਰਥ ਹੈ?
8

- Ans
- 1. ਮਿਹਨਤ ਕਰਨ ਦੇ ਬਾਵਜੂਦ ਕੁਝ ਹਾਸਲ ਨਹੀਂ ਹੁੰਦਾ
 - 2. ਹਰ ਰਾਹ ਵਿੱਚ ਸਮੱਸਿਆ ਆਉਂਦੀ ਹੈ
 - 3. ਇੱਛਾ ਅਤੇ ਮਿਹਨਤ ਨਾਲ ਕੁਝ ਵੀ ਹਾਸਲ ਕੀਤਾ ਜਾ ਸਕਦਾ ਹੈ
 - 4. ਜੇ ਮਨ ਵਿੱਚ ਰਾਹ ਨਹੀਂ ਹੈ ਤਾਂ ਰਾਹ ਨਹੀਂ ਮਿਲਦਾ

Question ID : 441009283705

Option 1 ID : 4410091101930

Option 2 ID : 4410091101929

Option 3 ID : 4410091101927

Option 4 ID : 4410091101928

Status : Answered

Chosen Option : 3

Q.3 What is the appropriate meaning in Punjabi of the word "laconic" in the following sentence?
9 His responses were laconic, consisting of only a few words.

- Ans
- 1. ਉਤਸ਼ਾਹੀ
 - 2. ਸੰਖੇਪ
 - 3. ਵਿਸਤ੍ਰਿਤ
 - 4. ਗੱਲਬਾਤ ਕਰਨ ਵਾਲਾ

Question ID : 441009267097

Option 1 ID : 4410091037655

Option 2 ID : 4410091037653

Option 3 ID : 4410091037654

Option 4 ID : 4410091037652

Status : Answered

Chosen Option : 1

Q.4 ਹੇਠ ਦਿੱਤੇ ਸਵਾਲ ਵਿੱਚ, ਦਿੱਤੇ ਗਏ ਚਾਰ ਵਿਕਲਪਾਂ ਵਿੱਚੋਂ, ਉਹ ਵਿਕਲਪ ਚੁਣੋ ਜੋ ਮੁਹਾਵਰੇ/ਵਾਕਾਂਸ਼ ਦੇ ਅਰਥ ਨੂੰ ਸਭ ਤੋਂ ਵਧੀਆ
0 ਢੰਗ ਨਾਲ ਪ੍ਰਗਟ ਕਰਦਾ ਹੈ।

ਆਖਰੀ ਪੱਤਾ ਲੱਗਣਾ

- Ans
- 1. ਆਖਰੀ ਇਮਤਿਹਾਨ
 - 2. ਹਾਰ ਮੰਨ ਲੈਣੀ
 - 3. ਕਾਮਯਾਬ ਹੋਣਾ
 - 4. ਪੱਤਿਆਂ ਦੀ ਗਿਣਤੀ

Question ID : 441009305690

Option 1 ID : 4410091189506

Option 2 ID : 4410091189508

Option 3 ID : 4410091189509

Option 4 ID : 4410091189507

Status : Answered

Chosen Option : 3

Q.4 ਘਟੀਆ ਸ਼ਬਦ ਦੇ ਸਮਾਨਾਰਥਕ ਸ਼ਬਦ ਦੱਸੋ।
1

- Ans
- 1. ਟੋਭਾ/ਟੋਲਾ
 - 2. ਕਮੀਨਾ/ਮਾੜਾ
 - 3. ਆਲਸ/ਢਿੱਲਾ
 - 4. ਕੰਗਾਲ/ਨਿਮਾਣਾ

Question ID : 441009286651

Option 1 ID : 4410091113576

Option 2 ID : 4410091113577

Option 3 ID : 4410091113579

Option 4 ID : 4410091113578

Status : Answered

Chosen Option : 2

Q.4 2	What is the appropriate meaning in Punjabi of the word "Ameliorate" in the following sentence? Efforts are being made to ameliorate the living conditions of the poor.
Ans	<input checked="" type="checkbox"/> 1. ਬਰਦਾਸ਼ਤ ਕਰਨਾ <input checked="" type="checkbox"/> 2. ਵਿਗਾੜਨਾ <input checked="" type="checkbox"/> 3. ਸੁਧਾਰਨਾ <input checked="" type="checkbox"/> 4. ਨਜ਼ਰਅੰਦਾਜ਼ ਕਰਨਾ

Question ID :	441009267108
Option 1 ID :	4410091037695
Option 2 ID :	4410091037692
Option 3 ID :	4410091037693
Option 4 ID :	4410091037694
Status :	Answered
Chosen Option :	4

Q.4 3	What does "Rope" mean in Punjabi in the sentence below? "They tied the boxes with a strong rope."
Ans	<input checked="" type="checkbox"/> 1. ਰੱਸੀ <input checked="" type="checkbox"/> 2. ਸੋਟੀ <input checked="" type="checkbox"/> 3. ਲੱਕੜ <input checked="" type="checkbox"/> 4. ਕਪੜਾ

Question ID :	441009306549
Option 1 ID :	4410091192895
Option 2 ID :	4410091192896
Option 3 ID :	4410091192898
Option 4 ID :	4410091192897
Status :	Answered
Chosen Option :	1

Q.4 4	ਹੇਠਾਂ ਦਿੱਤਿਆਂ ਵਿੱਚੋਂ ਕਿਹੜਾ ਮਹੀਨਾ ਵਿਆਕਰਣ ਅਨੁਸਾਰ ਠੀਕ ਲਿਖਿਆ ਗਿਆ ਹੈ?
Ans	<input checked="" type="checkbox"/> 1. ਅਪ੍ਰੈਲ <input checked="" type="checkbox"/> 2. ਅਪਰੇਲ <input checked="" type="checkbox"/> 3. ਅਪਰੈਲ <input checked="" type="checkbox"/> 4. ਅਪ੍ਰੈਲ

Question ID :	441009274840
Option 1 ID :	4410091067642
Option 2 ID :	4410091067643
Option 3 ID :	4410091067641
Option 4 ID :	4410091067644
Status :	Answered
Chosen Option :	1

Q.4 5	ਅੱਗੇ ਸੱਪ ਪਿੱਛੇ _____ ' ਅਖਾਣ ਨੂੰ ਪੂਰਾ ਕਰੋ।
Ans	<p>✗ 1. ਸੋਟਾ</p> <p>✓ 2. ਸ਼ਹਿਰ</p> <p>✗ 3. ਨਿਓਲਾ</p> <p>✗ 4. ਲਕੀਰ</p>

Question ID :	441009267558
Option 1 ID :	4410091039478
Option 2 ID :	4410091039476
Option 3 ID :	4410091039477
Option 4 ID :	4410091039479
Status :	Answered
Chosen Option :	2

Q.4 6	ਹੇਠ ਦਿੱਤੇ ਸਵਾਲ ਵਿੱਚ, ਦਿੱਤੇ ਗਏ ਚਾਰ ਵਿਕਲਪਾਂ ਵਿੱਚੋਂ, ਉਹ ਵਿਕਲਪ ਚੁਣੋ ਜੋ ਮੁਹਾਵਰੇ/ਵਾਕਾਂਸ਼ ਦੇ ਅਰਥ ਨੂੰ ਸਭ ਤੋਂ ਵਧੀਆ ਢੰਗ ਨਾਲ ਪ੍ਰਗਟ ਕਰਦਾ ਹੈ। ਮੂੰਹ ਮਿਠਾ ਕਰਾਉਣਾ
Ans	<p>✓ 1. ਖੁਸ਼ਖ਼ਬਰੀ ਦੇਣੀ</p> <p>✗ 2. ਮਠਿਆਈ ਖਾਣੀ</p> <p>✗ 3. ਨਫ਼ਰਤ ਦਿਖਾਉਣੀ</p> <p>✗ 4. ਮਿਹਨਤ ਕਰਨੀ</p>

Question ID :	441009288097
Option 1 ID :	4410091119288
Option 2 ID :	4410091119287
Option 3 ID :	4410091119290
Option 4 ID :	4410091119289
Status :	Answered
Chosen Option :	1

Q.4 7	ਸਹੀ ਇੱਕ ਵਚਨ-ਬਹੁ ਵਚਨ ਦੱਸੋ।
Ans	<p>✗ 1. ਕੁੜੀ/ਮੁੰਡਾ</p> <p>✓ 2. ਚੋ/ਚੋਆਂ</p> <p>✗ 3. ਕਾਪੀ/ ਪੈਨਸਿਲ</p> <p>✗ 4. ਮਾਂ/ਮਾਈ</p>

Question ID :	441009284394
Option 1 ID :	4410091104656
Option 2 ID :	4410091104657
Option 3 ID :	4410091104659
Option 4 ID :	4410091104658
Status :	Answered
Chosen Option :	2

Test

Prime

By Adda247

Previous Year Papers PDF

PRACTICE MORE, SCORE HIGHER!



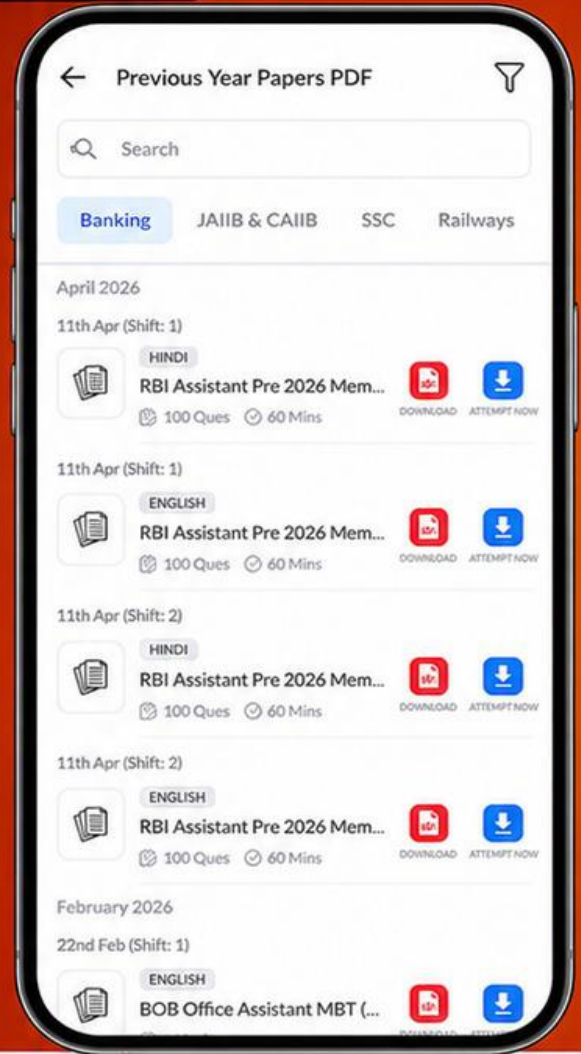
Free
25,000+
PDF's

High-Quality | Exam-Wise | Updated Regularly

ATTEMPT AS
MOCK



Turn PDFs into real exam experience.
Analyze. Improve. Succeed.



Topic-wise & Exam-wise PDFs



Download & Study Offline



Attempt as Mock & Track Score



Smart Analysis & Performance

AVAILABLE IN



Banking



SSC



Railway



Teaching



UGC



Agriculture



Nursing



Bihar



UP



Punjab



WB



Odisha



TN



AP & Telangana



Haryana



DOWNLOAD THE APP



Q.4 8	ਸੰਤੋਖ ਸ਼ਬਦ ਦੇ ਸਮਾਨਾਰਥਕ ਸ਼ਬਦ ਚੁਣੋ।
Ans	<input checked="" type="checkbox"/> 1. ਸਬਰ, ਰੱਜ <input type="checkbox"/> 2. ਝੂਠ, ਪੱਜ <input type="checkbox"/> 3. ਸੁਦਰ, ਸੋਹਣਾ <input type="checkbox"/> 4. ਹਿੰਮਤ, ਹੌਸਲਾ

Question ID :	441009263049
Option 1 ID :	4410091024745
Option 2 ID :	4410091024744
Option 3 ID :	4410091024743
Option 4 ID :	4410091024742
Status :	Answered
Chosen Option :	1

Q.4 9	-ਈ' ਪਿਛੇਤਰ ਵਾਲਾ ਸਹੀ ਸ਼ਬਦ ਚੁਣੋ
Ans	<input type="checkbox"/> 1. ਈਰਾਨ <input type="checkbox"/> 2. ਈਸ਼ਵਰ <input type="checkbox"/> 3. ਈਮਾਨ <input checked="" type="checkbox"/> 4. ਮਿਠਾਈ

Question ID :	441009298848
Option 1 ID :	4410091162427
Option 2 ID :	4410091162428
Option 3 ID :	4410091162426
Option 4 ID :	4410091162429
Status :	Answered
Chosen Option :	4

Q.5 0	ਇਹਨਾਂ ਵਿੱਚੋਂ ਕਿਸ ਵਿੱਚ "।।" ਚਿੰਨ੍ਹ ਵਰਤਿਆ ਜਾਂਦਾ ਹੈ?
Ans	<input checked="" type="checkbox"/> 1. ਕਵਿਤਾ ਦੇ ਅੰਤ 'ਤੇ <input type="checkbox"/> 2. ਸਧਾਰਣ ਵਾਕ ਦੇ ਅੰਤ 'ਤੇ <input type="checkbox"/> 3. ਸੰਬੋਧਨ ਲਈ <input type="checkbox"/> 4. ਸਵਾਲ ਦੇ ਅੰਤ 'ਤੇ

Question ID :	441009288027
Option 1 ID :	4410091119007
Option 2 ID :	4410091119008
Option 3 ID :	4410091119010
Option 4 ID :	4410091119009
Status :	Answered
Chosen Option :	3