



# PUNJAB POLICE

Police to its last particle is duty

Exam Name	Punjab Police Constable in District and Armed Cadre 4th May to 18th June 2025
Registration Number	
Roll No	
Applicant Name	
Exam Date	18/06/2025
Exam Shift	2:00 PM - 5:00 PM
Subject	CONSTABLE IN DISTRICT AND ARMED CADRE OF PUNJAB POLICE PAPER I AND PAPER II
Candidate Application Photograph	
Candidate Exam Day Photograph	

Section : General Awareness

**Test  
Prime**

By Adda247

# ALL EXAMS, ONE SUBSCRIPTION



Test. Analyze. Improve. Repeat.



**Don't just *prepare*. *Perform*.**

Test Prime — built only for mock tests.



**1,50,000+**  
Mock Tests



**25,000+**  
Previous Year Papers



**800+**  
Exam Covered



**500% Refund**  
on Selection



**5 lakh+**  
Free Quizzes



**Daily**  
Free PDFs



**Job Alerts**  
Stay Updated

- Multilingual
- Detailed Solution
- Strong and Weak Areas



**All India  
Rankings**

Compete with lakhs.  
Rank. Improve. Repeat.



← Adda247 test prime

Rating ▾

Editors' choice

New



Adda247 Test Prime  
Adda Education • Education  
Installed



**DOWNLOAD THE APP**



Q.1 ਧਰਤੀ ਹੇਠਲੇ ਪਾਣੀ ਦੀ ਹੱਦੋਂ ਜ਼ਿਆਦਾ ਵਰਤੋਂ ਕਾਰਨ ਪੰਜਾਬ ਦੇ ਪੇਂਡੂ ਖੇਤਰਾਂ ਨੂੰ ਕਿਹੜੀ ਵੱਡੀ ਚੁਣੌਤੀ ਦਾ ਸਾਹਮਣਾ ਕਰਨਾ ਪੈ ਰਿਹਾ ਹੈ?

- Ans
- 1. ਬਹੁਤ ਜ਼ਿਆਦਾ ਖੇਤ ਸਮਰੱਥਾ
  - 2. ਪਾਣੀ ਦੀ ਧਾਰਨ ਸਮਰੱਥਾ ਦਾ ਵਧਣਾ
  - 3. ਬਹੁਤ ਜ਼ਿਆਦਾ ਬਾਰਿਸ਼
  - 4. ਪਾਣੀ ਦੇ ਪੱਧਰ 'ਚ ਕਮੀ

Question ID : 441009136288

Option 1 ID : 441009541580

Option 2 ID : 441009541581

Option 3 ID : 441009541579

Option 4 ID : 441009541582

Status : Answered

Chosen Option : 4

Q.2 ਸੰਵਿਧਾਨ ਵਿੱਚੋਂ ਕਿਹੜਾ ਮੌਲਿਕ ਅਧਿਕਾਰ ਹਟਾ ਦਿੱਤਾ ਗਿਆ ਹੈ?

- Ans
- 1. ਸ਼ੇਸ਼ਣ ਵਿਰੁੱਧ ਅਧਿਕਾਰ
  - 2. ਜਾਇਦਾਦ ਦਾ ਅਧਿਕਾਰ
  - 3. ਸੱਭਿਆਚਾਰਕ ਅਤੇ ਸਿੱਖਿਆ ਸੰਬੰਧੀ ਅਧਿਕਾਰ
  - 4. ਸੰਵਿਧਾਨਕ ਉਪਚਾਰਾਂ ਦਾ ਅਧਿਕਾਰ

Question ID : 441009106561

Option 1 ID : 441009424276

Option 2 ID : 441009424275

Option 3 ID : 441009424278

Option 4 ID : 441009424277

Status : Answered

Chosen Option : 4

Q.3 1905 ਈਸਵੀ ਵਿੱਚ ਪੰਜਾਬੀਆਂ ਦੇ ਵਿਦੇਸ਼ਾਂ ਵਿੱਚ ਪਰਵਾਸ ਦਾ ਇੱਕ ਮਹੱਤਵਪੂਰਨ ਨਤੀਜਾ ਕੀ ਸੀ?

- Ans
- 1. ਭਾਰਤ ਦੀ ਆਜ਼ਾਦੀ ਲਈ ਗ਼ਦਰ ਲਹਿਰ ਦਾ ਉਭਾਰ
  - 2. ਬ੍ਰਿਟਿਸ਼ ਦੁਆਰਾ ਭਾਰਤੀਆਂ ਦੀ ਵਿਦੇਸ਼ ਯਾਤਰਾ 'ਤੇ ਲਗਾਈ ਪਾਬੰਦੀ
  - 3. ਬ੍ਰਿਟਿਸ਼ ਸੱਭਿਆਚਾਰ ਦਾ ਵਧਿਆ ਪ੍ਰਭਾਵ
  - 4. ਨਵੇਂ ਵਪਾਰਕ ਮਾਰਗਾਂ ਦੀ ਸਥਾਪਨਾ

Question ID : 441009107641

Option 1 ID : 441009428568

Option 2 ID : 441009428570

Option 3 ID : 441009428569

Option 4 ID : 441009428567

Status : Answered

Chosen Option : 4

Q.4 ਐਨੋਰੈਕਸੀਆ ਨਰਵੇਸਾ ਅਤੇ ਬੁਲੀਮੀਆ ਨਰਵੇਸਾ ਕੁੜੀਆਂ ਵਿੱਚ ਮਾਹਵਾਰੀ ਸ਼ੁਰੂ ਹੋਣ ਵਿੱਚ ਦੇਰੀ ਦਾ ਕਾਰਨ ਬਣ ਸਕਦੀਆਂ ਹਨ। ਇਹ ਹੇਠ ਲਿਖੇ ਕਿਹੜੇ ਕਾਰਨਾਂ ਕਰਕੇ ਹੁੰਦਾ ਹੈ।

- Ans
- 1. ਐਸਟ੍ਰੋਜਨ ਦੇ ਪੱਧਰ ਵਿੱਚ ਵਾਧਾ ਜੋ ਅਲੂੜਪਣੇ ਵਿੱਚ ਦੇਰੀ ਕਰਦਾ ਹੈ
  - 2. ਜੜੀ-ਬੂਟੀਆਂ ਦੇ ਪੂਰਕਾਂ ਦਾ ਅਕਸਰ ਸੇਵਨ
  - 3. ਬਹੁਤ ਜ਼ਿਆਦਾ ਸਰੀਰਕ ਗਤੀਵਿਧੀ ਅਤੇ ਨਾਕਾਫੀ ਪੋਸ਼ਣ
  - 4. ਘੱਟ-ਮਸਾਲੇਦਾਰ, ਹਲਕਾ ਭੋਜਨ ਦਾ ਸੇਵਨ

Question ID : 441009149164

Option 1 ID : 441009592439

Option 2 ID : 441009592440

Option 3 ID : 441009592438

Option 4 ID : 441009592441

Status : Answered

Chosen Option : 1

Q.5 ਭਾਰਤੀ ਸੰਵਿਧਾਨ ਵਿੱਚ ਕਿਹੜਾ ਭਾਗ ਸੰਵਿਧਾਨ (74ਵੀਂ ਸੋਧ) ਐਕਟ ਰਾਹੀਂ ਸ਼ਾਮਲ ਕੀਤਾ ਗਿਆ ਸੀ?

- Ans
- 1. ਭਾਗ XI
  - 2. ਭਾਗ IX
  - 3. ਭਾਗ IXA
  - 4. ਭਾਗ XII

Question ID : 441009108429

Option 1 ID : 441009431662

Option 2 ID : 441009431660

Option 3 ID : 441009431661

Option 4 ID : 441009431663

Status : Answered

Chosen Option : 3

Q.6 Punjab received top honours at the Green Schools Awards 2025, in which month and year?

- Ans
- 1. February 2025
  - 2. January 2025
  - 3. December 2024
  - 4. March 2025

Question ID : 44100995308

Option 1 ID : 441009379185

Option 2 ID : 441009379184

Option 3 ID : 441009379187

Option 4 ID : 441009379186

Status : Answered

Chosen Option : 1

Q.7 ਜੇਕਰ ਕੋਈ ਵਿਅਕਤੀ ਹਰਿਆਣੇ ਦਾ ਨਿਵਾਸੀ ਹੈ ਤਾਂ ਉਹ ਨਿਆਂ ਲਈ ਕਿਸ ਹਾਈ ਕੋਰਟ ਵਿੱਚ ਜਾ ਸਕਦਾ ਹੈ?

Ans  1. ਪੰਜਾਬ ਅਤੇ ਹਰਿਆਣਾ ਹਾਈ ਕੋਰਟ

2. ਚੰਡੀਗੜ੍ਹ ਹਾਈ ਕੋਰਟ

3. ਪੰਜਾਬ ਹਾਈ ਕੋਰਟ

4. ਹਰਿਆਣਾ ਹਾਈ ਕੋਰਟ

Question ID : 441009114217

Option 1 ID : 441009454337

Option 2 ID : 441009454334

Option 3 ID : 441009454336

Option 4 ID : 441009454335

Status : Answered

Chosen Option : 1

Q.8 ਇੱਕ ਫੁੱਟਬਾਲ ਖਿਡਾਰੀ ਲਈ ਹੇਠ ਲਿਖਿਆ ਵਿੱਚੋਂ ਕਿਹੜਾ ਸੂਖਮ ਪੌਸ਼ਟਿਕ ਤੱਤ ਊਰਜਾ ਦਾ ਮੁੱਖ ਸਰੋਤ ਹੈ?

Ans  1. ਕਾਰਬੋਹਾਈਡਰੇਟ

2. ਚਰਬੀ

3. ਰਫੇਜਿਸ

4. ਪ੍ਰੋਟੀਨ

Question ID : 441009125746

Option 1 ID : 441009499712

Option 2 ID : 441009499715

Option 3 ID : 441009499714

Option 4 ID : 441009499713

Status : Answered

Chosen Option : 4

Q.9 ਬਹੁਤ ਜ਼ਿਆਦਾ ਸੌਫਟ ਡਰਿੰਕਸ ਪੀਣ ਨਾਲ ਹੇਠ ਲਿਖੀ ਕਿਸ ਵਜ੍ਹਾ ਨਾਲ ਪਰੋਪਰ ਹਾਈਡਰੇਸ਼ਨ (proper hydration) ਵਿੱਚ ਵਿਘਨ ਪੈ ਸਕਦਾ ਹੈ?

Ans  1. ਇਹ ਖਣਿਜ-ਤੱਤਾਂ ਨਾਲ ਭਰਪੂਰ ਹੁੰਦੇ ਹਨ ਜਿਸ ਨਾਲ ਕੈਲਸ਼ੀਅਮ ਦਾ ਸੋਖਣ ਵਧਦਾ ਹੈ।

2. ਇਹ ਦਿਮਾਗ ਦੀ ਗਤੀਵਿਧੀ ਨੂੰ ਰੋਕਦੇ ਹਨ ਜਿਸ ਲਈ ਵਾਧੂ ਹਾਈਡਰੇਸ਼ਨ ਦੀ ਲੋੜ ਹੁੰਦੀ ਹੈ।

3. ਇਹ ਪੇਟ ਵਿੱਚ ਤਿਜ਼ਾਬੀਪਣ ਦੇ ਪੱਧਰ ਨੂੰ ਵਧਾਉਂਦੇ ਹਨ ਜਿਸ ਨਾਲ ਦਸਤ ਦੇ ਚੱਲਦੇ ਪਾਣੀ ਦੀ ਕਮੀ ਹੋ ਜਾਂਦੀ ਹੈ।

4. ਇਹ ਮੂਤਰ-ਨਿਕਾਸੀ ਦਵਾਈਆਂ (diuretics) ਵਜੋਂ ਕੰਮ ਕਰਦੇ ਹਨ ਅਤੇ ਪਾਣੀ ਦੀ ਧਾਰਨ ਨੂੰ ਘਟਾਉਣ ਵਿੱਚ ਮਦਦ ਕਰਦੇ ਹਨ।

Question ID : 441009151697

Option 1 ID : 441009601967

Option 2 ID : 441009601970

Option 3 ID : 441009601969

Option 4 ID : 441009601968

Status : Answered

Chosen Option : 3

Q.1 0 ਮਾਰਚ 2025 ਵਿੱਚ, ਵੈਟਲੈਂਡ ਵਾਈਜ਼ ਯੂਜ਼ ਲਈ ਰਾਮਸਰ ਅਵਾਰਡ ਜਿੱਤਣ ਵਾਲਾ ਪਹਿਲਾ ਭਾਰਤੀ ਕੌਣ ਬਣਿਆ?

- Ans
- 1. ਮੇਧਾ ਪਾਟਕਰ
  - 2. ਅੰਬੁਮਣੀ ਰਾਮਦਾਸ
  - 3. ਜਯਸ਼੍ਰੀ ਵੈਂਕਟੇਸਨ
  - 4. ਰਾਜਿੰਦਰ ਸਿੰਘ

Question ID :	441009108833
Option 1 ID :	441009433150
Option 2 ID :	441009433148
Option 3 ID :	441009433147
Option 4 ID :	441009433149
Status :	Answered
Chosen Option :	3

Q.1 1 ਬਾਰੂਵੀਂ ਅਨੁਸੂਚੀ ਦੇ ਅਨੁਸਾਰ, ਹੇਠਾਂ ਦਿੱਤਿਆਂ ਵਿੱਚੋਂ ਕਿਹੜਾ ਨਗਰ ਪਾਲਿਕਾਵਾਂ ਦਾ ਮੁੱਖ ਕਾਰਜ ਹੈ?

- Ans
- 1. ਨਿਆਂਕਾਰੀ ਪ੍ਰਸ਼ਾਸਨ
  - 2. ਆਮਦਨ ਟੈਕਸ ਦੀ ਉਗਰਾਹੀ
  - 3. ਰੱਖਿਆ
  - 4. ਸ਼ਹਿਰੀ ਯੋਜਨਾਬੰਦੀ

Question ID :	44100994486
Option 1 ID :	441009375940
Option 2 ID :	441009375941
Option 3 ID :	441009375938
Option 4 ID :	441009375939
Status :	Answered
Chosen Option :	4

Q.1 2 ਰੂਕਿਆਂ ਦੇ ਵਿਦਰੋਹ ਤੋਂ ਬਾਅਦ ਉਨ੍ਹਾਂ ਲਈ ਲੰਬੇ ਸਮੇਂ ਦੇ ਸਮਾਜਿਕ-ਆਰਥਿਕ ਨਤੀਜੇ ਕੀ ਸਨ?

- Ans
- 1. ਉਨ੍ਹਾਂ ਨੂੰ ਬਸਤੀਵਾਦੀ ਪ੍ਰਸ਼ਾਸਨ ਵਿੱਚ ਏਕੀਕ੍ਰਿਤ ਕੀਤਾ ਗਿਆ।
  - 2. ਉਨ੍ਹਾਂ ਦੀਆਂ ਜਾਇਦਾਦਾਂ ਜ਼ਬਤ ਕਰ ਲਈਆਂ ਗਈਆਂ, ਅਤੇ ਬਹੁਤਿਆਂ ਨੂੰ ਦੇਸ਼ ਨਿਕਾਲਾ ਦਿੱਤਾ ਗਿਆ ਜਾਂ ਫਾਂਸੀ ਦੇ ਦਿੱਤੀ ਗਈ।
  - 3. ਉਨ੍ਹਾਂ ਨੇ ਯੂਰਪੀ ਵਪਾਰੀਆਂ ਨਾਲ ਗੱਠਜੋੜ ਬਣਾਇਆ।
  - 4. ਉਨ੍ਹਾਂ ਨੇ ਅੰਗਰੇਜ਼ਾਂ ਤੋਂ ਆਰਥਿਕ ਵਿਸ਼ੇਸ਼ ਅਧਿਕਾਰ ਪ੍ਰਾਪਤ ਕੀਤੇ।

Question ID :	441009107658
Option 1 ID :	441009428634
Option 2 ID :	441009428632
Option 3 ID :	441009428633
Option 4 ID :	441009428631
Status :	Answered
Chosen Option :	2

Q.1 ਗਰਮੀਆਂ ਦੌਰਾਨ ਪੰਜਾਬ ਵਿੱਚ ਹਨੇਰੀ-ਤੂਫ਼ਾਨ ਦਾ ਮੁੱਖ ਕਾਰਨ ਕੀ ਹੈ?

3

Ans  1. ਤੇਜ਼ ਪੱਛਮੀ ਹਵਾਵਾਂ

2. ਭੂ-ਤਾਪ ਅਤੇ ਸੰਵਹਿਣ

3. ਉੱਤਰ-ਪੂਰਬੀ ਮੌਨਸੂਨ ਦਾ ਪ੍ਰਭਾਵ

4. ਅਰਬ ਸਾਗਰ ਤੋਂ ਨਮੀ

Question ID : 441009106211

Option 1 ID : 441009422879

Option 2 ID : 441009422880

Option 3 ID : 441009422881

Option 4 ID : 441009422882

Status : Answered

Chosen Option : 1

Q.1 ਹੇਠ ਲਿਖਿਆਂ ਵਿੱਚੋਂ ਕਿਹੜਾ ਕਥਨ ਭਾਰਤ ਵਿੱਚ ਮੂਲ ਅਧਿਕਾਰਾਂ ਅਤੇ ਮੂਲ ਕਰਤਵਾਂ ਵਿਚਲੇ ਸੰਬੰਧਾਂ ਨੂੰ ਦਰਸਾਉਂਦਾ ਹੈ?

4

Ans  1. ਨਾਗਰਿਕਾਂ ਵੱਲੋਂ ਅਧਿਕਾਰਾਂ ਦੀ ਵਰਤੋਂ ਨਾਗਰਿਕ ਦੀਆਂ ਜ਼ਿੰਮੇਵਾਰੀਆਂ ਨਾਲ ਸੰਤੁਲਿਤ ਹੋਣੀ ਚਾਹੀਦੀ ਹੈ।

2. ਮੌਲਿਕ ਕਰਤਵ ਵਾਅਕੀਆਂ 'ਤੇ ਲਾਗੂ ਨਹੀਂ ਹੁੰਦੇ, ਸਿਰਫ ਸੰਸਥਾਵਾਂ 'ਤੇ ਹੁੰਦੇ ਹਨ।

3. ਕਰਤਵ ਕਾਨੂੰਨੀ ਤੌਰ 'ਤੇ ਬਿਨਾਂ ਕਿਸੇ ਜਾਂਚ ਦੇ ਮੌਲਿਕ ਅਧਿਕਾਰਾਂ ਨੂੰ ਸੀਮਿਤ ਕਰ ਸਕਦੇ ਹਨ।

4. ਅਧਿਕਾਰ ਕਿਸੇ ਵੀ ਜ਼ਿੰਮੇਵਾਰੀ ਤੋਂ ਸੁਤੰਤਰ ਹੋਂਦ ਰੱਖਦੇ ਹਨ।

Question ID : 44100985164

Option 1 ID : 441009338366

Option 2 ID : 441009338367

Option 3 ID : 441009338365

Option 4 ID : 441009338364

Status : Answered

Chosen Option : 2

Q.1 The first step in implementing Hazard Analysis Critical Control Points (HACCP) is:

5

Ans  1. train employees

2. identify critical control points (CCPs)

3. establish monitoring procedures

4. conduct a hazard analysis

Question ID : 441009129826

Option 1 ID : 441009515720

Option 2 ID : 441009515721

Option 3 ID : 441009515719

Option 4 ID : 441009515722

Status : Answered

Chosen Option : 4

Q.1 Which official has been appointed as the Resident Commissioner of Punjab Bhawan, New Delhi, by the Punjab government in March 2025?

- Ans
- 1. Shruti Singh
  - 2. Vikas Garg
  - 3. Rahul Tiwari
  - 4. Alaknanda Dayal

Question ID : 44100995341

Option 1 ID : 441009379321

Option 2 ID : 441009379322

Option 3 ID : 441009379323

Option 4 ID : 441009379320

Status : Answered

Chosen Option : 1

Q.1 Vice Chairman of the NITI Aayog is given the rank and status of \_\_\_\_?

- Ans
- 1. Secretary
  - 2. Principal Secretary
  - 3. Minister of State
  - 4. Cabinet Minister

Question ID : 44100999785

Option 1 ID : 441009397087

Option 2 ID : 441009397086

Option 3 ID : 441009397085

Option 4 ID : 441009397084

Status : Answered

Chosen Option : 2

Q.1 ਹੇਠ ਲਿਖਿਆਂ ਵਿੱਚੋਂ ਕਿਹੜਾ ਭਾਰਤ ਵਿੱਚ ਜ਼ਿਲ੍ਹਾ ਅਦਾਲਤ ਦਾ ਇੱਕ ਕਾਰਜ ਹੈ?

- Ans
- 1. ਸੰਵਿਧਾਨਕ ਸੇਧਾਂ ਨੂੰ ਮਨਜ਼ੂਰੀ ਦੇਣਾ ਜਾਂ ਰੱਦ ਕਰਨਾ
  - 2. ਜ਼ਿਲ੍ਹੇ ਦੀ ਸਭ ਤੋਂ ਉੱਚ ਅਦਾਲਤ ਵਜੋਂ ਸਿਵਲ ਅਤੇ ਅਪਰਾਧਿਕ ਅਧਿਕਾਰ ਖੇਤਰ ਦੋਵਾਂ ਦੀ ਵਰਤੋਂ ਕਰਨਾ
  - 3. ਮੌਲਿਕ ਅਧਿਕਾਰਾਂ ਲਈ ਰਿੱਟਾਂ ਜਾਰੀ ਕਰਨਾ ਅਤੇ ਉਹਨਾਂ ਦੇ ਪ੍ਰਭਾਵਸ਼ਾਲੀ ਲਾਗੂਕਰਨ ਨੂੰ ਯਕੀਨੀ ਬਣਾਉਣਾ
  - 4. ਰਾਜ ਸਭਾ ਦੀਆਂ ਚੋਣਾਂ ਦੀ ਨਿਗਰਾਨੀ ਕਰਨਾ

Question ID : 44100987367

Option 1 ID : 441009347291

Option 2 ID : 441009347293

Option 3 ID : 441009347292

Option 4 ID : 441009347294

Status : Answered

Chosen Option : 2

Q.1 9 ਭਾਰਤ ਨੇ ਦਸੰਬਰ 2024 ਵਿੱਚ ਹੇਠ ਲਿਖਿਆਂ ਵਿੱਚੋਂ ਕਿਸ ਰਾਜ ਵਿੱਚ ਪਹਿਲੀ ਵਾਰ ਗੰਗਾ ਨਦੀ ਡੌਲਫਿਨ ਟੈਰਿਗੰਗ ਦਾ ਆਯੋਜਨ ਕੀਤਾ?

- Ans
- 1. ਉੱਤਰਾਖੰਡ
  - 2. ਓਡੀਸ਼ਾ
  - 3. ਅਸਾਮ
  - 4. ਉੱਤਰ ਪ੍ਰਦੇਸ਼

Question ID :	441009108589
Option 1 ID :	441009432267
Option 2 ID :	441009432268
Option 3 ID :	441009432265
Option 4 ID :	441009432266
Status :	Answered
Chosen Option :	1

Q.2 0 ਚੋਣਾਂ ਤੋਂ ਬਾਅਦ ਕਿਸੇ ਰਾਜ ਦੇ ਮੁੱਖ ਮੰਤਰੀ ਦੀ ਚੋਣ ਕਿਵੇਂ ਕੀਤੀ ਜਾਂਦੀ ਹੈ?

- Ans
- 1. ਭਾਰਤ ਦਾ ਰਾਸ਼ਟਰਪਤੀ ਮੁੱਖ ਮੰਤਰੀ ਨੂੰ ਨਾਮਜ਼ਦ ਕਰਦਾ ਹੈ।
  - 2. ਰਾਜ ਦੇ ਲੋਕ ਸਿੱਧੇ ਤੌਰ 'ਤੇ ਮੁੱਖ ਮੰਤਰੀ ਨੂੰ ਵੋਟ ਦਿੰਦੇ ਹਨ।
  - 3. ਰਾਜਪਾਲ ਸੱਤਾਧਾਰੀ ਪਾਰਟੀ ਦੇ ਚੁਣੇ ਹੋਏ ਵਿਧਾਇਕਾਂ ਵਿੱਚੋਂ ਸਿੱਧੇ ਤੌਰ 'ਤੇ ਮੁੱਖ ਮੰਤਰੀ ਦੀ ਨਿਯੁਕਤੀ ਕਰਦਾ ਹੈ।
  - 4. ਸੱਤਾਧਾਰੀ ਪਾਰਟੀ ਨਾਲ ਸਬੰਧਿਤ ਵਿਧਾਇਕ ਆਪਣੇ ਨੇਤਾ ਦੀ ਚੋਣ ਕਰਦੇ ਹਨ, ਜੋ ਮੁੱਖ ਮੰਤਰੀ ਬਣਦਾ ਹੈ।

Question ID :	441009117895
Option 1 ID :	441009468754
Option 2 ID :	441009468755
Option 3 ID :	441009468752
Option 4 ID :	441009468753
Status :	Answered
Chosen Option :	3

Q.2 1 ਭਾਰਤ ਵਿੱਚ ਨਗਰ ਪਾਲਿਕਾਵਾਂ ਲਈ ਇਹਨਾਂ ਵਿੱਚੋਂ ਕਿਹੜਾ ਆਮਦਨ ਦਾ ਸਰੋਤ ਨਹੀਂ ਹੈ?

- Ans
- 1. ਸੀਵਰੇਜ ਟੈਕਸ
  - 2. ਵਸਤੂਆਂ ਅਤੇ ਸੇਵਾਵਾਂ ਕਰ
  - 3. ਜਾਇਦਾਦ ਕਰ
  - 4. ਪਾਣੀ ਦੀ ਸਪਲਾਈ ਦੇ ਖਰਚੇ

Question ID :	441009108408
Option 1 ID :	441009431609
Option 2 ID :	441009431606
Option 3 ID :	441009431607
Option 4 ID :	441009431608
Status :	Answered
Chosen Option :	2

Q.2 What major AI initiative was launched by the Indian government in 2024 to boost development across sectors like healthcare and agriculture?  
2

- Ans
- 1. BharatAI Project
  - 2. IndiaAI Mission
  - 3. SmartIndia Tech Mission
  - 4. National Digital Mission

Question ID : 441009109540

Option 1 ID : 441009435871

Option 2 ID : 441009435870

Option 3 ID : 441009435869

Option 4 ID : 441009435872

Status : Answered

Chosen Option : 3

Q.2 ਪੰਜਾਬ ਵਿੱਚ ਹੇਠ ਲਿਖੀਆਂ ਵਿੱਚੋਂ ਕਿਹੜੀ ਕਿਸਮ ਦੀ ਮਿੱਟੀ ਆਮ ਤੌਰ 'ਤੇ ਪਾਈ ਜਾਂਦੀ ਹੈ?  
3

- Ans
- 1. ਚਟਾਨੀ
  - 2. ਚੂਨਾ
  - 3. ਤੇਜ਼ਾਬੀ
  - 4. ਜਲੌੜ ਮਿੱਟੀ

Question ID : 44100981988

Option 1 ID : 441009325566

Option 2 ID : 441009325567

Option 3 ID : 441009325568

Option 4 ID : 441009325565

Status : Answered

Chosen Option : 1

Q.2 As of 2021, which of the following states is part of the Category 'A' group for drip irrigation with strong infrastructure and acceptance under the Per Drop More Crop Component of Pradhan Mantri Krishi Sinchayee Yojana?  
4

- Ans
- 1. Bihar
  - 2. Assam
  - 3. West Bengal
  - 4. Punjab

Question ID : 44100989314

Option 1 ID : 441009355399

Option 2 ID : 441009355400

Option 3 ID : 441009355402

Option 4 ID : 441009355401

Status : Answered

Chosen Option : 3

Q.2 ਪੰਜਾਬ ਆਰਥਿਕ ਸਰਵੇਖਣ 2022-23 ਦੇ ਅਨੁਸਾਰ, ਪਸ਼ੂਆਂ ਵਿੱਚ ਗੰਢਦਾਰ (lumpy skin) ਚਮੜੀ ਦੀ ਬਿਮਾਰੀ ਨਾਲ ਨਜਿੱਠਣ ਲਈ, ਪੰਜਾਬ ਸਰਕਾਰ ਨੇ ਕਿਹੜਾ ਨੀਤੀਗਤ ਉਪਾਅ ਕੀਤਾ ਹੈ?

- Ans
- 1. ਬਿਮਾਰੀਆਂ ਲਈ ਪ੍ਰਤੀਰੋਧ ਸਮਰੱਥਾ ਵਾਲੇ ਪਸ਼ੂਆਂ ਦੀਆਂ ਨਸਲਾਂ ਨੂੰ ਆਯਾਤ ਕਰਨਾ
  - 2. ਇੱਕ ਸਮੂਹਿਕ ਟੀਕਾਕਰਨ ਮੁਹਿੰਮ ਦਾ ਆਦੇਸ਼ ਦੇਣਾ
  - 3. ਪਸ਼ੂਆਂ 'ਤੇ ਤੁਰਨ-ਫਿਰਨ ਦੀਆਂ ਪਾਬੰਦੀਆਂ ਲਗਾਉਣਾ
  - 4. ਪ੍ਰਭਾਵਿਤ ਜਾਨਵਰਾਂ ਨੂੰ ਬਾਕੀਆਂ ਤੋਂ ਵੱਖ ਰੱਖਣਾ

Question ID : 441009131200

Option 1 ID : 441009521403

Option 2 ID : 441009521404

Option 3 ID : 441009521402

Option 4 ID : 441009521405

Status : Answered

Chosen Option : 2

Q.2 ਬਿਆਸ ਦਰਿਆ ਹੇਠ ਲਿਖੀਆਂ ਕਿਹੜੀਆਂ ਘਾਟੀਆਂ ਵਿੱਚੋਂ ਵਗਦਾ ਹੈ?

- Ans
- 1. ਕੁੱਲੂ ਵੈਲੀ
  - 2. ਆਬੂ ਵੈਲੀ
  - 3. ਕਸ਼ਮੀਰ ਘਾਟੀ
  - 4. ਸਪਿਤੀ ਵੈਲੀ

Question ID : 44100981064

Option 1 ID : 441009321912

Option 2 ID : 441009321913

Option 3 ID : 441009321910

Option 4 ID : 441009321911

Status : Answered

Chosen Option : 3

Q.2 ਮਾਰਚ 2025 ਤੱਕ ਪ੍ਰਧਾਨ ਮੰਤਰੀ ਦੇ ਨਵੇਂ 15 ਬਿੱਦੂ ਪ੍ਰੋਗਰਾਮ ਦਾ ਮੁੱਖ ਉਦੇਸ਼ ਕੀ ਹੈ?

- Ans
- 1. ਸਾਰੇ ਘੱਟ ਗਿਣਤੀ ਪਰਿਵਾਰਾਂ ਨੂੰ ਸਿੱਧੀ ਵਿੱਤੀ ਸਹਾਇਤਾ ਪ੍ਰਦਾਨ ਕਰਨਾ
  - 2. ਘੱਟ ਗਿਣਤੀ ਭਾਈਚਾਰਿਆਂ ਵਿੱਚ ਸੱਭਿਆਚਾਰਕ ਸਮਾਗਮਾਂ ਨੂੰ ਫੰਡ ਦੇਣਾ
  - 3. ਘੱਟ ਗਿਣਤੀਆਂ ਲਈ ਭਲਾਈ ਸਕੀਮਾਂ ਤੱਕ ਬਰਾਬਰ ਪਹੁੰਚ ਯਕੀਨੀ ਬਣਾਉਣਾ
  - 4. ਘੱਟ ਗਿਣਤੀ ਭਾਈਚਾਰਿਆਂ ਲਈ ਸਰਕਾਰੀ ਨੌਕਰੀਆਂ ਦੀ ਗਿਣਤੀ ਵਧਾਉਣਾ

Question ID : 441009108126

Option 1 ID : 441009430525

Option 2 ID : 441009430527

Option 3 ID : 441009430524

Option 4 ID : 441009430526

Status : Answered

Chosen Option : 4

Q.2 ਹੇਠ ਲਿਖੇ ਆਜ਼ਾਦੀ ਘੁਲਾਟੀਆਂ ਵਿੱਚੋਂ ਕਿਸਨੇ ਈਸਾਈ ਮਿਸ਼ਨਾਂ ਨੂੰ ਅਨਾਥ ਬੱਚਿਆਂ ਦੀ ਹਿਰਾਸਤ ਤੋਂ ਦੂਰ ਰੱਖਣ ਲਈ ਹਿੰਦੂ ਅਨਾਥ ਰਾਹਤ ਅੰਦੋਲਨ ਦੀ ਸਥਾਪਨਾ ਕੀਤੀ ਸੀ?

- Ans
- 1. ਅਜੀਤ ਸਿੰਘ
  - 2. ਭਗਤ ਸਿੰਘ
  - 3. ਕਰਤਾਰ ਸਿੰਘ ਸਰਾਭਾ
  - 4. ਲਾਲਾ ਲਾਜਪਤ ਰਾਏ

Question ID :	441009122404
Option 1 ID :	441009486549
Option 2 ID :	441009486548
Option 3 ID :	441009486547
Option 4 ID :	441009486546
Status :	Answered
Chosen Option :	1

Q.2 19 ਮਾਰਚ 2025 ਨੂੰ ਇੱਕ ਕੇਂਦਰੀ ਵਡਵ ਨਾਲ ਮੀਟਿੰਗ ਵਿੱਚ ਸ਼ਾਮਲ ਹੋਣ ਤੋਂ ਬਾਅਦ ਪੰਜਾਬ ਪੁਲਿਸ ਨੇ ਮੋਹਾਲੀ ਵਿੱਚ ਪੰਜਾਬ ਦੇ ਕਿਸ ਕਿਸਾਨ ਆਗੂ ਨੂੰ ਹਿਰਾਸਤ ਵਿੱਚ ਲਿਆ ਸੀ?

- Ans
- 1. ਜੋਗਿੰਦਰ ਸਿੰਘ ਉਗਰਾਹਾਂ
  - 2. ਸਰਵਣ ਸਿੰਘ ਪੰਧੇਰ
  - 3. ਗੁਰਨਾਮ ਸਿੰਘ ਚੜ੍ਹਨੀ
  - 4. ਹਰਿੰਦਰ ਸਿੰਘ ਲੱਖੇਵਾਲ

Question ID :	44100994443
Option 1 ID :	441009375758
Option 2 ID :	441009375759
Option 3 ID :	441009375761
Option 4 ID :	441009375760
Status :	Answered
Chosen Option :	2

Q.3 ਮੁੱਖ ਮੰਤਰੀ ਭਗਵੰਤ ਮਾਨ ਵੱਲੋਂ ਜਨਵਰੀ 2025 ਵਿੱਚ ਦੱਸੇ ਅਨੁਸਾਰ, ਪੰਜਾਬ ਨੇ 2022 ਵਿੱਚ CADA ਅਧੀਨ ਸਲਾਹਕਾਰਾਂ ਅਤੇ ਕੋਆਰਡੀਨੇਟਰਾਂ ਦੀ ਨਿਯੁਕਤੀ ਲਈ ਕੇਂਦਰ ਤੋਂ ਕਿੰਨਾ ਫੰਡ ਮੰਗਿਆ ਸੀ?

- Ans
- 1. ₹200 ਕਰੋੜ
  - 2. ₹100 ਕਰੋੜ
  - 3. ₹105 ਕਰੋੜ
  - 4. ₹107 ਕਰੋੜ

Question ID :	44100994309
Option 1 ID :	441009375217
Option 2 ID :	441009375214
Option 3 ID :	441009375216
Option 4 ID :	441009375215
Status :	Answered
Chosen Option :	2

Q.3 42ਵੇਂ ਸੰਵਿਧਾਨਕ ਸੋਧ ਨਾਲ ਪ੍ਰਸਤਾਵਨਾ ਵਿੱਚ ਕਿਹੜਾ/ਕਿਹੜੇ ਸ਼ਬਦ ਜੋੜਿਆ ਗਿਆ ਸੀ/ਜੋੜੇ ਗਏ ਸੀ?

1

Ans  1. ਸਮਾਜਵਾਦੀ

2. ਪ੍ਰਭੂਸੱਤਾ ਸੰਪੰਨ ਲੋਕਤੰਤਰੀ

3. ਸਮਾਨਤਾ

4. ਗਣਰਾਜ

Question ID : 441009107335

Option 1 ID : 441009427344

Option 2 ID : 441009427341

Option 3 ID : 441009427343

Option 4 ID : 441009427342

Status : Answered

Chosen Option : 2

Q.3 ਕੈਲਸ਼ੀਅਮ ਇੱਕ ਮਹੱਤਵਪੂਰਨ ਖਣਿਜ ਹੈ ਅਤੇ ਇਹ \_\_\_\_\_ ਲਈ ਲੋੜੀਂਦਾ ਹੈ।

2

Ans  1. ਦੰਦਾਂ ਦੇ ਮਜ਼ਬੂਤ ਬਣਨ

2. RBC ਦੇ ਬਣਨ

3. ਰੀਮੋਗਲੋਬਿਨ ਦੇ ਬਣਨ

4. ਇਨਸੁਲਿਨ ਉਤਪਾਦਨ

Question ID : 441009123565

Option 1 ID : 441009491163

Option 2 ID : 441009491165

Option 3 ID : 441009491164

Option 4 ID : 441009491166

Status : Answered

Chosen Option : 1

Q.3 What are the three primary macronutrients essential for body's energy and growth?

3

Ans  1. Water, fibre, and antioxidants

2. Carbohydrates, proteins, and fats

3. Vitamins, minerals, and fibre

4. Calcium, iron, and magnesium

Question ID : 441009103409

Option 1 ID : 441009411805

Option 2 ID : 441009411804

Option 3 ID : 441009411803

Option 4 ID : 441009411806

Status : Answered

Chosen Option : 3

Q.3 ਹੱਡੀਆਂ ਦੀ ਸਿਹਤ ਤੋਂ ਇਲਾਵਾ, ਕੈਲਸ਼ੀਅਮ ਹੇਠ ਲਿਖਿਆਂ ਵਿੱਚੋਂ ਕਿਹੜੇ ਕਾਰਜਾਂ ਵਿੱਚ ਮਹੱਤਵਪੂਰਨ ਭੂਮਿਕਾ ਨਿਭਾਉਂਦਾ ਹੈ?  
4

- Ans
- 1. ਪ੍ਰੋਟੀਨ ਦਾ ਖਾਚਨ
  - 2. ਜਿਗਰ ਦਾ ਡੀਟੋਕਸੀਫਿਕੇਸ਼ਨ
  - 3. ਨਸ ਸੰਚਾਰ ਅਤੇ ਮਾਸਪੇਸ਼ੀ ਕਾਰਜ
  - 4. ਚਮੜੀ ਦੀ ਲਚਕਤਾ ਵਿੱਚ ਸੁਧਾਰ

Question ID : 441009102719

Option 1 ID : 441009408898

Option 2 ID : 441009408900

Option 3 ID : 441009408899

Option 4 ID : 441009408901

Status : Answered

Chosen Option : 1

Q.3 ਭਾਰਤ ਅਤੇ ਫਰਾਂਸ ਵਿਚਕਾਰ ਇੱਕ ਦੁਵੱਲੇ ਜਲ ਸੈਨਾ ਅਭਿਆਸ, ਵਰੁਣ, ਦੇ ਹੇਠ ਲਿਖੇ ਐਡੀਸ਼ਨਾਂ ਵਿੱਚੋਂ ਕਿਹੜਾ ਮਾਰਚ 2025 ਵਿੱਚ ਆਯੋਜਿਤ ਕੀਤਾ ਗਿਆ ਸੀ?  
5

- Ans
- 1. 25ਵਾਂ ਐਡੀਸ਼ਨ
  - 2. 24ਵਾਂ ਐਡੀਸ਼ਨ
  - 3. 23ਵਾਂ ਐਡੀਸ਼ਨ
  - 4. 22ਵਾਂ ਐਡੀਸ਼ਨ

Question ID : 441009109091

Option 1 ID : 441009434185

Option 2 ID : 441009434184

Option 3 ID : 441009434183

Option 4 ID : 441009434182

Status : Answered

Chosen Option : 2

Section : Quantitative Aptitude and Numerical Skills

Q.3 ਜੇਕਰ 25 ਵਿਅਕਤੀ ਜੋ ਦਿਨ ਵਿੱਚ 10 ਘੰਟੇ ਕੰਮ ਕਰਦੇ ਹਨ, 7 ਦਿਨਾਂ ਵਿੱਚ 2 ਯੂਨਿਟ ਕੰਮ ਪੂਰਾ ਕਰ ਸਕਦੇ ਹਨ, ਤਾਂ 15 ਵਿਅਕਤੀਆਂ ਨੂੰ ਦਿਨ ਵਿੱਚ 10 ਘੰਟੇ ਕੰਮ ਕਰਦੇ ਹੋਏ 18 ਯੂਨਿਟ ਕੰਮ ਪੂਰਾ ਕਰਨ ਲਈ ਕਿੰਨੇ ਦਿਨ ਲੱਗਣਗੇ?  
6

- Ans
- 1. 90
  - 2. 105
  - 3. 115
  - 4. 100

Question ID : 441009194501

Option 1 ID : 441009765952

Option 2 ID : 441009765951

Option 3 ID : 441009765953

Option 4 ID : 441009765954

Status : Answered

Chosen Option : 1

Q.3 The sum of 8 numbers is 444. Find the average number.

7

Ans  1. 55.5

2. 56.5

3. 54.5

4. 53.5

Question ID : 441009194702

Option 1 ID : 441009766755

Option 2 ID : 441009766757

Option 3 ID : 441009766756

Option 4 ID : 441009766758

Status : Answered

Chosen Option : 1

Q.3 The number of non-square numbers between  $183^2$  and  $184^2$  is:

8

Ans  1. 359

2. 366

3. 375

4. 361

Question ID : 441009194356

Option 1 ID : 441009765373

Option 2 ID : 441009765371

Option 3 ID : 441009765372

Option 4 ID : 441009765374

Status : Answered

Chosen Option : 3

Q.3 ਇੱਕ ਡੀਲਰ ਦੇ ਚੀਜ਼ਾਂ X ਅਤੇ Y ਨੂੰ ₹600 ਪ੍ਰਤੀ ਵਸਤੂ ਦੇ ਹਿਸਾਬ ਨਾਲ ਖਰੀਦਦਾ ਹੈ। ਉਹ ਉਹਨਾਂ ਵਿੱਚੋਂ ਹਰੇਕ ਨੂੰ ਇੱਕੋ ਮੁੱਲ 'ਤੇ ਅੰਕਿਤ ਕਰਦਾ ਹੈ। ਉਹ X ਨੂੰ 25% ਅਤੇ 15% ਦੀਆਂ ਦੋ ਲਗਾਤਾਰ ਛੋਟਾਂ ਦੇ ਕੇ ਵੇਚਦਾ ਹੈ ਅਤੇ ਫਿਰ ਵੀ ₹216 ਦਾ ਲਾਭ ਕਮਾਉਂਦਾ ਹੈ। ਜੇਕਰ ਉਹ Y ਨੂੰ 46% ਦੀ ਇਕਹਰੀ ਛੋਟ 'ਤੇ ਵੇਚਦਾ ਹੈ, ਤਾਂ Y 'ਤੇ ਲਾਭ ਪ੍ਰਤੀਸ਼ਤ ਕੀ ਹੋਵੇਗਾ?

Ans  1. 15%

2. 14%

3. 15.2%

4. 14.5%

Question ID : 441009194387

Option 1 ID : 441009765497

Option 2 ID : 441009765498

Option 3 ID : 441009765495

Option 4 ID : 441009765496

Status : Answered

Chosen Option : 3

Q.4 A merchant has 1587 kg of sugar. He sells a part of it at 24% profit and the remaining quantity at 48% profit. If his overall gain is 32%, how much sugar (in kg) was sold at 48% profit?

Ans  1. 529

2. 535

3. 526

4. 520

Question ID : 441009191401

Option 1 ID : 441009754404

Option 2 ID : 441009754405

Option 3 ID : 441009754406

Option 4 ID : 441009754407

Status : Answered

Chosen Option : 3

Q.4 Evaluate  $0.\overline{264} \times 0.\overline{58}$

Ans  1.  $\frac{462}{5994}$

2.  $\frac{928}{3007}$

3.  $\frac{474}{2997}$

4.  $\frac{464}{2997}$

Question ID : 441009194271

Option 1 ID : 441009765032

Option 2 ID : 441009765034

Option 3 ID : 441009765033

Option 4 ID : 441009765031

Status : Answered

Chosen Option : 2

Q.4 A, ਦਿੱਤੇ ਗਏ ਦੋ ਸਟੇਸ਼ਨਾਂ ਵਿਚਕਾਰ ਰੇਲਵੇ ਟ੍ਰੈਕ ਨੂੰ 21 ਦਿਨਾਂ ਵਿੱਚ ਵਿਛਾ ਸਕਦਾ ਹੈ ਅਤੇ B ਇਹੀ ਕੰਮ 12 ਦਿਨਾਂ ਵਿੱਚ ਕਰ ਸਕਦਾ ਹੈ। C ਦੀ ਮਦਦ ਨਾਲ, ਉਨ੍ਹਾਂ ਨੇ ਇਹ ਕੰਮ ਸਿਰਫ਼ 4 ਦਿਨਾਂ ਵਿੱਚ ਕਰ ਲਿਆ। C ਇਕੱਲਾ ਇਹ ਕੰਮ ਕਿੰਨੇ ਦਿਨਾਂ ਵਿੱਚ ਕਰ ਸਕਦਾ ਹੈ?

- Ans
- ✓ 1.  $8\frac{2}{5}$  ਦਿਨ
  - ✗ 2.  $6\frac{2}{5}$  ਦਿਨ
  - ✗ 3.  $18\frac{2}{5}$  ਦਿਨ
  - ✗ 4.  $10\frac{2}{5}$  ਦਿਨ

Question ID :	441009191226
Option 1 ID :	441009753704
Option 2 ID :	441009753705
Option 3 ID :	441009753707
Option 4 ID :	441009753706
Status :	Answered
Chosen Option :	2

Q.4 ਗੋਪਾਲ ਨੇ ਕਾਰੋਬਾਰ ਸ਼ੁਰੂ ਕਰਨ ਲਈ ਇੱਕ ਬੈਂਕ ਤੋਂ ₹2,80,000 ਦੀ ਰਾਸ਼ੀ ਉਧਾਰ ਲਈ ਹੈ। ਉਹ 4 ਸਾਲਾਂ ਬਾਅਦ 4% ਸਾਲਾਨਾ ਦੀ ਦਰ ਨਾਲ ਕਿੰਨਾ ਸਧਾਰਨ ਵਿਆਜ (₹ ਵਿੱਚ) ਅਦਾ ਕਰੇਗਾ?

- Ans
- ✗ 1. 45,800
  - ✗ 2. 3,24,800
  - ✓ 3. 44,800
  - ✗ 4. 43,800

Question ID :	441009194585
Option 1 ID :	441009766289
Option 2 ID :	441009766288
Option 3 ID :	441009766287
Option 4 ID :	441009766290
Status :	Answered
Chosen Option :	4

Q.4 ਇੱਕ ਪੁਸਤਕਾਂ ਦੀ ਦੁਕਾਨ ਦੁਆਰਾ ਇੱਕ ਨਾਵਲ 'ਤੇ ₹1,200 ਅੰਕਿਤ ਕੀਤੇ ਗਏ। ਇਸਨੇ 20% ਅਤੇ 5% ਦੀਆਂ ਦੋ ਲਗਾਤਾਰ ਛੋਟਾਂ ਦੀ ਪੇਸ਼ਕਸ਼ ਕੀਤੀ। ਗਾਹਕ ਨੇ ਆਖਰਕਾਰ ਕਿੰਨਾ ਮੁੱਲ ਅਦਾ ਕੀਤਾ?

- Ans
- ✗ 1. ₹972
  - ✗ 2. ₹924
  - ✓ 3. ₹912
  - ✗ 4. ₹944

Question ID :	441009154275
Option 1 ID :	441009612261
Option 2 ID :	441009612259
Option 3 ID :	441009612258
Option 4 ID :	441009612260
Status :	Answered
Chosen Option :	3

Q.4 A shopkeeper bought an article for ₹1,220. At what price (in ₹) should he sell the article to make a 20% profit?

- Ans
- 1. 976
  - 2. 1,476
  - 3. 1,452
  - 4. 1,464

Question ID : 441009191041

Option 1 ID : 441009752965

Option 2 ID : 441009752966

Option 3 ID : 441009752967

Option 4 ID : 441009752964

Status : Answered

Chosen Option : 3

Q.4 ਅਮਿਤ ਨੇ ਇੱਕ ਪੈਂਟ ਖਰੀਦੀ ਅਤੇ ਇਸਨੂੰ ਗੋਪਾਲ ਨੂੰ 8% ਦੇ ਲਾਭ 'ਤੇ ਵੇਚ ਦਿੱਤਾ। ਗੋਪਾਲ ਨੇ ਇਸਨੂੰ ਅਕਸ਼ਯ ਨੂੰ 25% ਦੀ ਹਾਨੀ 'ਤੇ ਵੇਚ ਦਿੱਤਾ। ਜੇਕਰ ਅਕਸ਼ਯ ਨੇ ₹3,240 ਦਾ ਭੁਗਤਾਨ ਕੀਤਾ, ਤਾਂ ਅਮਿਤ ਦੁਆਰਾ ਖਰੀਦੀ ਗਈ ਪੈਂਟ ਦਾ ਖਰੀਦ ਮੁੱਲ (₹ ਵਿੱਚ) ਕੀ ਹੈ?

- Ans
- 1. 3,800
  - 2. 4,000
  - 3. 3,750
  - 4. 4,150

Question ID : 441009194231

Option 1 ID : 441009764872

Option 2 ID : 441009764871

Option 3 ID : 441009764874

Option 4 ID : 441009764873

Status : Answered

Chosen Option : 1

Q.4 ਸੁਧਾ ਦਾ ਖਰਚ ਉਸਦੀ ਬੱਚਤ ਨਾਲੋਂ 150% ਵੱਧ ਹੈ। ਜੇਕਰ ਉਸਦਾ ਖਰਚ 7% ਘੱਟਦਾ ਹੈ ਅਤੇ ਬੱਚਤ 35% ਵੱਧਦੀ ਹੈ, ਤਾਂ ਉਸਦੀ ਆਮਦਨ ਕਿੰਨੇ ਪ੍ਰਤੀਸ਼ਤ ਵੱਧੀ ਹੈ?

- Ans
- 1. 5%
  - 2. 1%
  - 3. 10%
  - 4. 2%

Question ID : 441009194264

Option 1 ID : 441009765003

Option 2 ID : 441009765004

Option 3 ID : 441009765006

Option 4 ID : 441009765005

Status : Answered

Chosen Option : 1

Q.4 ਜੇਕਰ 4 ਅਤੇ 12 ਦਾ ਤੀਜਾ ਸਮਾਨ ਅਨੁਪਾਤ  $x$  ਹੈ, ਤਾਂ  $x$  ਦਾ ਮੁੱਲ ਕੀ ਹੈ?

- Ans
- 1. 33
  - 2. 38
  - 3. 39
  - 4. 36

Question ID :	441009194060
Option 1 ID :	441009764190
Option 2 ID :	441009764188
Option 3 ID :	441009764189
Option 4 ID :	441009764187
Status :	Answered
Chosen Option :	4

Q.4 ਰਾਕੇਸ਼ ਨੇ ਇੱਕ ਦੁਕਾਨ ਤੋਂ ₹1,145 ਪ੍ਰਤੀ ਕਿਤਾਬ ਦੀ ਦਰ ਨਾਲ 51 ਕਿਤਾਬਾਂ ਅਤੇ ਦੂਜੀ ਦੁਕਾਨ ਤੋਂ ₹915 ਪ੍ਰਤੀ ਕਿਤਾਬ ਦੀ ਦਰ ਨਾਲ 48 ਕਿਤਾਬਾਂ ਖਰੀਦੀਆਂ। ਉਸਦਾ ਪ੍ਰਤੀ ਕਿਤਾਬ ਔਸਤ ਮੁੱਲ (ਦੋ ਦਸ਼ਮਲਵ ਨਿਕਟਤਮ, ₹ ਵਿੱਚ) ਭੁਗਤਾਨ ਕੀ ਹੋਵੇਗਾ?

- Ans
- 1. 1,043.48
  - 2. 1,023.48
  - 3. 1,048.48
  - 4. 1,033.48

Question ID :	441009194629
Option 1 ID :	441009766464
Option 2 ID :	441009766465
Option 3 ID :	441009766466
Option 4 ID :	441009766463
Status :	Answered
Chosen Option :	2

Q.5 ਇੱਕ ਅਧਿਆਪਕ ਆਪਣੇ ਚਾਰ ਵਿਦਿਆਰਥੀਆਂ ਨੂੰ  $\frac{1}{3} : \frac{1}{5} : \frac{1}{6} : \frac{1}{4}$  ਦੇ ਅਨੁਪਾਤ ਵਿੱਚ ਕੁਝ ਮਿਠਾਈਆਂ ਵੰਡਦਾ ਹੈ। ਅਧਿਆਪਕ ਕੋਲ ਘੱਟੋ-ਘੱਟ ਕਿੰਨੀਆਂ ਮਿਠਾਈਆਂ ਹੋਣੀਆਂ ਚਾਹੀਦੀਆਂ ਹਨ, ਤਾਂ ਜੋ ਕਿਸੇ ਵੀ ਮਿਠਾਈ ਨੂੰ ਵੰਡਣ ਲਈ ਹਿੱਸਿਆਂ ਵਿੱਚ ਤੋੜਨ ਦੀ ਲੋੜ ਨਾ ਪਵੇ?

- Ans
- 1. 57
  - 2. 71
  - 3. 77
  - 4. 76

Question ID :	441009194378
Option 1 ID :	441009765459
Option 2 ID :	441009765460
Option 3 ID :	441009765461
Option 4 ID :	441009765462
Status :	Answered
Chosen Option :	4

Q.5 ਇੱਕ ਪ੍ਰੀਖਿਆ ਵਿੱਚ, ਵੱਧ ਤੋਂ ਵੱਧ 105 ਅੰਕਾਂ ਵਿੱਚੋਂ B ਨੂੰ 56 ਅੰਕ ਮਿਲੇ ਜਦੋਂ ਕਿ A ਨੂੰ 75 ਅੰਕ ਮਿਲੇ। B ਦੇ ਅੰਕ, A ਦੇ ਅੰਕਾਂ ਦਾ ਲਗਭਗ ਕਿੰਨਾ ਪ੍ਰਤੀਸ਼ਤ ਸਨ?

Ans  1. 71.43%

2. 74.67%

3. 133.93%

4. 105%

Question ID : 441009194520

Option 1 ID : 441009766030

Option 2 ID : 441009766027

Option 3 ID : 441009766028

Option 4 ID : 441009766029

Status : Answered

Chosen Option : 2

Q.5 ਹੇਠ ਦਿੱਤੇ ਨੂੰ ਸਰਲ ਬਣਾਓ।  
2

$$24 - [3 - \{8 - (2 + 7)\}]$$

Ans  1. 24

2. 20

3. 17

4. 27

Question ID : 441009194416

Option 1 ID : 441009765613

Option 2 ID : 441009765611

Option 3 ID : 441009765612

Option 4 ID : 441009765614

Status : Answered

Chosen Option : 2



**Comprehension:**

ਅਗਲੇ 3 ਸਵਾਲਾਂ ਲਈ ਨਿਰਦੇਸ਼ਨ:

ਸਾਲ 2022 ਵਿੱਚ, ਤਿੰਨ ਵਿਅਕਤੀਆਂ - ਅਮਿਤ, ਭਾਵਨਾ ਅਤੇ ਚੇਤਨ - ਦੀ ਮਾਸਿਕ ਆਮਦਨ 5: 6: 7 ਦੇ ਅਨੁਪਾਤ ਵਿੱਚ ਸੀ। 2022 ਵਿੱਚ ਉਨ੍ਹਾਂ ਦੇ ਮਾਸਿਕ ਖਰਚੇ 3: 4: 6 ਦੇ ਅਨੁਪਾਤ ਵਿੱਚ ਸਨ।

2023 ਵਿੱਚ:

ਅਮਿਤ ਦੀ ਆਮਦਨ ਵਿੱਚ 20% ਦਾ ਵਾਧਾ ਹੋਇਆ

ਭਾਵਨਾ ਦੀ ਆਮਦਨ ਵਿੱਚ 10% ਦਾ ਵਾਧਾ ਹੋਇਆ

ਚੇਤਨ ਦੀ ਆਮਦਨ ਵਿੱਚ 5% ਦੀ ਕਮੀ ਆਈ

ਤਿੰਨਾਂ ਦੇ ਖਰਚੇ ₹5,000 ਪ੍ਰਤੀ ਵਿਅਕਤੀ ਵਧੇ

ਇਹ ਪਤਾ ਹੈ ਕਿ:

2022 ਵਿੱਚ ਅਮਿਤ ਦੀ ਆਮਦਨ ₹50,000 ਸੀ

2022 ਵਿੱਚ ਅਮਿਤ ਦੇ ਖਰਚੇ ₹30,000 ਸਨ

SubQuestion No : 53

Q.5 2023 ਵਿੱਚ ਚੇਤਨ ਦੀ ਆਮਦਨ ਕਿੰਨੀ ਸੀ?  
3

Ans  1. ₹62,500

2. ₹66,500

3. ₹65,000

4. ₹68,000

Question ID : 441009150819

Option 1 ID : 441009598517

Option 2 ID : 441009598516

Option 3 ID : 441009598519

Option 4 ID : 441009598518

Status : Answered

Chosen Option : 3

**Comprehension:**

Direction for next 3 questions:

In the year 2022, the monthly incomes of three individuals – Amit, Bhavna, and Chetan – were in the ratio 5 : 6 : 7.

Their monthly expenses in 2022 were in the ratio 3 : 4 : 6.

In 2023:

Amit's income increased by 20%

Bhavna's income increased by 10%

Chetan's income decreased by 5%

The expenses of all three increased by ₹5,000 each

It is known that:

Amit's income in 2022 was ₹50,000

Amit's expenses in 2022 were ₹30,000

**SubQuestion No : 54****Q.5**  
4 **What is the savings of Bhavna in 2023?****Ans** ✓ 1. ₹21,000

✗ 2. ₹25,000

✗ 3. ₹18,000

✗ 4. ₹24,000

Question ID : 441009150820

Option 1 ID : 441009598520

Option 2 ID : 441009598522

Option 3 ID : 441009598523

Option 4 ID : 441009598521

Status : Answered

Chosen Option : 2

**Comprehension:**

Direction for next 3 questions:

In the year 2022, the monthly incomes of three individuals – Amit, Bhavna, and Chetan – were in the ratio 5 : 6 : 7.

Their monthly expenses in 2022 were in the ratio 3 : 4 : 6.

In 2023:

Amit's income increased by 20%

Bhavna's income increased by 10%

Chetan's income decreased by 5%

The expenses of all three increased by ₹5,000 each

It is known that:

Amit's income in 2022 was ₹50,000

Amit's expenses in 2022 were ₹30,000

**SubQuestion No : 55**

**Q.5** Who had the highest percentage savings in 2023?  
5

Ans  1. Bhavna

2. Chetan

3. All had equal percentage savings

4. Amit

Question ID : 441009150821

Option 1 ID : 441009598525

Option 2 ID : 441009598526

Option 3 ID : 441009598527

Option 4 ID : 441009598524

Status : Answered

Chosen Option : 4

Section : Mental Ability & Logical Reasoning

**Comprehension:**

ਦਿੱਤੀ ਗਈ ਜਾਣਕਾਰੀ ਨੂੰ ਪੜ੍ਹੋ ਅਤੇ ਹੇਠਾਂ ਦਿੱਤੇ ਸਵਾਲਾਂ ਦੇ ਜਵਾਬ ਦਿਓ।

ਇੱਕ ਪ੍ਰੀਖਿਆ ਵਿੱਚ, ਆਨੰਦ ਨੇ ਕਲਾਸ ਵਿੱਚ ਉੱਪਰੋਂ 13ਵਾਂ ਅਤੇ ਵਿਸ਼ਨੂੰ ਨੇ ਹੇਠਾਂ ਤੋਂ 14ਵਾਂ ਸਥਾਨ ਪ੍ਰਾਪਤ ਕੀਤਾ। ਸਿਰਫ਼ ਇੱਕ ਵਿਅਕਤੀ ਨੇ ਵਿਸ਼ਨੂੰ ਤੋਂ ਵੱਧ ਪਰ ਆਨੰਦ ਤੋਂ ਘੱਟ ਅੰਕ ਪ੍ਰਾਪਤ ਕੀਤੇ।

**SubQuestion No : 56**

**Q.5** ਕਲਾਸ ਵਿੱਚ ਕਿੰਨੇ ਵਿਦਿਆਰਥੀ ਹਨ?  
6

Ans  1. 34

2. 28

3. 32

4. 25

Question ID : 44100990903

Option 1 ID : 441009361771

Option 2 ID : 441009361770

Option 3 ID : 441009361768

Option 4 ID : 441009361769

Status : Answered

Chosen Option : 2

**Comprehension:**

ਦਿੱਤੀ ਗਈ ਜਾਣਕਾਰੀ ਨੂੰ ਪੜ੍ਹੋ ਅਤੇ ਹੇਠਾਂ ਦਿੱਤੇ ਸਵਾਲਾਂ ਦੇ ਜਵਾਬ ਦਿਓ।

ਇੱਕ ਪ੍ਰੀਖਿਆ ਵਿੱਚ, ਆਨੰਦ ਨੇ ਕਲਾਸ ਵਿੱਚ ਉੱਪਰੋਂ 13ਵਾਂ ਅਤੇ ਵਿਸ਼ਨੂੰ ਨੇ ਹੇਠਾਂ ਤੋਂ 14ਵਾਂ ਸਥਾਨ ਪ੍ਰਾਪਤ ਕੀਤਾ। ਸਿਰਫ਼ ਇੱਕ ਵਿਅਕਤੀ ਨੇ ਵਿਸ਼ਨੂੰ ਤੋਂ ਵੱਧ ਪਰ ਆਨੰਦ ਤੋਂ ਘੱਟ ਅੰਕ ਪ੍ਰਾਪਤ ਕੀਤੇ।

SubQuestion No : 57

Q.5 ਆਨੰਦ ਦਾ ਹੇਠਾਂ ਤੋਂ ਕਿੰਨਵਾਂ ਸਥਾਨ ਹੈ?  
7

- Ans
- 1. 17
  - 2. 19
  - 3. 16
  - 4. 21

Question ID :	44100990904
Option 1 ID :	441009361773
Option 2 ID :	441009361775
Option 3 ID :	441009361774
Option 4 ID :	441009361772
Status :	Answered
Chosen Option :	3

**Comprehension:**

ਦਿੱਤੀ ਗਈ ਜਾਣਕਾਰੀ ਨੂੰ ਪੜ੍ਹੋ ਅਤੇ ਅੱਗੇ ਦਿੱਤੇ ਪ੍ਰਸ਼ਨਾਂ ਦੇ ਉੱਤਰ ਦਿਓ।

A, B, C, D ਅਤੇ E ਵਿੱਚੋਂ ਹਰੇਕ ਦੀ ਪ੍ਰੀਖਿਆ ਹਫ਼ਤੇ ਦੇ ਇੱਕ ਵੱਖਰੇ ਦਿਨ ਨੂੰ ਹੁੰਦੀ ਹੈ ਅਤੇ ਜੋ ਕਿ ਸੋਮਵਾਰ ਤੋਂ ਸ਼ੁਰੂ ਹੋ ਕੇ ਉਸੇ ਹਫ਼ਤੇ ਦੇ ਸ਼ੁੱਕਰਵਾਰ ਨੂੰ ਖਤਮ ਹੁੰਦੀ ਹੈ। B ਦੀ ਪ੍ਰੀਖਿਆ ਬੁੱਧਵਾਰ ਨੂੰ ਹੁੰਦੀ ਹੈ। B ਅਤੇ E ਦੇ ਵਿਚਕਾਰ ਸਿਰਫ਼ ਇੱਕ ਵਿਅਕਤੀ ਦੀ ਪ੍ਰੀਖਿਆ ਹੁੰਦੀ ਹੈ। C ਤੋਂ ਬਾਅਦ ਸਿਰਫ਼ D ਦੀ ਪ੍ਰੀਖਿਆ ਹੁੰਦੀ ਹੈ।

SubQuestion No : 58

Q.5 A ਦੀ ਪ੍ਰੀਖਿਆ ਕਿਸ ਦਿਨ ਹੁੰਦੀ ਹੈ?  
8

- Ans
- 1. ਮੰਗਲਵਾਰ
  - 2. ਵੀਰਵਾਰ
  - 3. ਸ਼ੁੱਕਰਵਾਰ
  - 4. ਸੋਮਵਾਰ

Question ID :	441009344857
Option 1 ID :	4410091345391
Option 2 ID :	4410091345392
Option 3 ID :	4410091345393
Option 4 ID :	4410091345390
Status :	Answered
Chosen Option :	1

**Comprehension:**

ਦਿੱਤੀ ਗਈ ਜਾਣਕਾਰੀ ਨੂੰ ਪੜ੍ਹੋ ਅਤੇ ਅੱਗੇ ਦਿੱਤੇ ਪ੍ਰਸ਼ਨਾਂ ਦੇ ਉੱਤਰ ਦਿਓ।

A, B, C, D ਅਤੇ E ਵਿੱਚੋਂ ਹਰੇਕ ਦੀ ਪ੍ਰੀਖਿਆ ਹਫ਼ਤੇ ਦੇ ਇੱਕ ਵੱਖਰੇ ਦਿਨ ਨੂੰ ਹੁੰਦੀ ਹੈ ਅਤੇ ਜੋ ਕਿ ਸੋਮਵਾਰ ਤੋਂ ਸ਼ੁਰੂ ਹੋ ਕੇ ਉਸੇ ਹਫ਼ਤੇ ਦੇ ਸ਼ੁੱਕਰਵਾਰ ਨੂੰ ਖਤਮ ਹੁੰਦੀ ਹੈ। B ਦੀ ਪ੍ਰੀਖਿਆ ਬੁੱਧਵਾਰ ਨੂੰ ਹੁੰਦੀ ਹੈ। B ਅਤੇ E ਦੇ ਵਿਚਕਾਰ ਸਿਰਫ਼ ਇੱਕ ਵਿਅਕਤੀ ਦੀ ਪ੍ਰੀਖਿਆ ਹੁੰਦੀ ਹੈ। C ਤੋਂ ਬਾਅਦ ਸਿਰਫ਼ D ਦੀ ਪ੍ਰੀਖਿਆ ਹੁੰਦੀ ਹੈ।

SubQuestion No : 59

Q.5 B ਅਤੇ D ਦੇ ਵਿਚਕਾਰ ਕਿੰਨੇ ਵਿਅਕਤੀਆਂ ਦੀ ਪ੍ਰੀਖਿਆ ਹੁੰਦੀ ਹੈ?

- Ans
- 1. ਚਾਰ
  - 2. ਇੱਕ
  - 3. ਤਿੰਨ
  - 4. ਦੋ

Question ID :	441009344858
Option 1 ID :	4410091345397
Option 2 ID :	4410091345394
Option 3 ID :	4410091345396
Option 4 ID :	4410091345395
Status :	Answered
Chosen Option :	4

**Comprehension:**

Read the given information and answer the questions that follow.

Each of A, B, C, D and E has an exam on a different day of a week starting from Monday and ending on Friday of the same week. B has an exam on Wednesday. Only one person has an exam between B and E. Only D has an exam after C.

SubQuestion No : 60

Q.6 How many people have exams before C?

- Ans
- 1. One
  - 2. Four
  - 3. Two
  - 4. Three

Question ID :	441009344856
Option 1 ID :	4410091345386
Option 2 ID :	4410091345389
Option 3 ID :	4410091345387
Option 4 ID :	4410091345388
Status :	Answered
Chosen Option :	4

**Comprehension:**  
Read the given information and answer the questions that follow. (All the turns are 90-degree turns only unless specified.)  
Mr. Kelly starts from Point A and drives 12 km towards north. He then takes a right turn, drives 14 km, turns right and drives 16 km. He then takes a right turn and drives 18 km. He takes a final right turn, drives 4 km and stops at Point P.

**SubQuestion No : 61**  
Q.6 Towards which direction should he drive in order to reach Point A again from point P?  
1  
Ans  1. South  
 2. East  
 3. West  
 4. North

Question ID :	44100976534
Option 1 ID :	441009304332
Option 2 ID :	441009304330
Option 3 ID :	441009304329
Option 4 ID :	441009304331
Status :	Answered
Chosen Option :	1

**Comprehension:**  
ਦਿੱਤੀ ਗਈ ਜਾਣਕਾਰੀ ਨੂੰ ਪੜ੍ਹੋ ਅਤੇ ਅੱਗੇ ਦਿੱਤੇ ਸਵਾਲਾਂ ਦੇ ਜਵਾਬ ਦਿਓ। (ਸਾਰੇ ਮੋੜ ਸਿਰਫ 90-ਡਿਗਰੀ ਮੋੜ ਹਨ ਜਦੋਂ ਤੱਕ ਨਿਰਧਾਰਤ ਨਹੀਂ ਕੀਤਾ ਜਾਂਦਾ।)  
ਸ਼੍ਰੀ. ਕੈਲੀ ਬਿੰਦੂ A ਤੋਂ ਗੱਡੀ ਚਲਾਉਣਾ ਸ਼ੁਰੂ ਕਰਦਾ ਹੈ ਅਤੇ ਉੱਤਰ ਵੱਲ 12 km ਗੱਡੀ ਚਲਾਉਂਦਾ ਹੈ। ਫਿਰ ਉਹ ਸੱਜਾ ਮੋੜ ਲੈਂਦਾ ਹੈ, 14 km ਗੱਡੀ ਚਲਾਉਂਦਾ ਹੈ, ਸੱਜੇ ਮੁੜਦਾ ਹੈ ਅਤੇ 16 km ਗੱਡੀ ਚਲਾਉਂਦਾ ਹੈ। ਫਿਰ ਉਹ ਇੱਕ ਸੱਜਾ ਮੋੜ ਲੈਂਦਾ ਹੈ ਅਤੇ 18 km ਗੱਡੀ ਚਲਾਉਂਦਾ ਹੈ। ਉਹ ਇੱਕ ਆਖਰੀ ਸੱਜਾ ਮੋੜ ਲੈਂਦਾ ਹੈ, 4 km ਗੱਡੀ ਚਲਾਉਂਦਾ ਹੈ ਅਤੇ ਬਿੰਦੂ P 'ਤੇ ਰੁਕਦਾ ਹੈ।

**SubQuestion No : 62**  
Q.6 ਬਿੰਦੂ A 'ਤੇ ਦੁਬਾਰਾ ਪਹੁੰਚਣ ਲਈ ਉਸਨੂੰ ਕਿੰਨੀ ਦੂਰੀ (ਸਭ ਤੋਂ ਛੋਟੀ ਦੂਰੀ) ਤੱਕ ਗੱਡੀ ਚਲਾਉਣੀ ਚਾਹੀਦੀ ਹੈ?  
2  
Ans  1. 2 km  
 2. 4 km  
 3. 16 km  
 4. 8 km

Question ID :	44100976532
Option 1 ID :	441009304321
Option 2 ID :	441009304322
Option 3 ID :	441009304324
Option 4 ID :	441009304323
Status :	Answered
Chosen Option :	1

Q.6 3 Below are given two sets of numbers. In each set of numbers, a certain mathematical operation on the first number results in the second number. Similarly, certain mathematical operation on the second number results in the third number and so on. Which of the given options follows the same set of operations as in question?  
(NOTE – A two/three-digit number cannot be broken into individual digits for operations e.g. if 37 is followed by 10, the operation cannot be 3+7 as a two-digit number cannot be broken into individual digits)

7 – 35 – 50; 5 – 25 – 40

Ans  1. 4 – 20 – 30

2. 3 – 15 – 45

3. 10 – 50 – 65

4. 8 – 40 – 65

Question ID : 44100989065

Option 1 ID : 441009354336

Option 2 ID : 441009354337

Option 3 ID : 441009354335

Option 4 ID : 441009354338

Status : Answered

Chosen Option : 2

Q.6 4 Refer to the given letter series and answer the question that follows.  
(Left) N T M B H G F H A D L K F (Right)  
Which letter is seventh from the left in the given series?

Ans  1. H

2. A

3. F

4. G

Question ID : 441009101416

Option 1 ID : 441009403690

Option 2 ID : 441009403691

Option 3 ID : 441009403688

Option 4 ID : 441009403689

Status : Answered

Chosen Option : 3

Q.6 ਹੇਠ ਦਿੱਤੀ ਸੰਖਿਆ ਅਤੇ ਚਿੰਨ੍ਹ ਲੜੀ ਦੇ ਹਵਾਲੇ ਤੋਂ ਅੱਗੇ ਦਿੱਤੇ ਪ੍ਰਸ਼ਨ ਦਾ ਉੱਤਰ ਦਿਓ। ਗਣਨਾਵਾਂ ਖੱਬੇ ਪਾਸੇ ਤੋਂ ਸੱਜੇ ਪਾਸੇ ਵੱਲ ਹੀ ਕਰਨੀਆਂ ਹਨ।

(ਖੱਬੇ) \* 2 % 4 1 & 3 £ 9 @ # 8 \$ 7 & 6 Q 5 (ਸੱਜੇ)

ਜੇਕਰ ਸਾਰੇ ਚਿੰਨ੍ਹ ਲੜੀ ਵਿੱਚੋਂ ਹਟਾ ਦਿੱਤੇ ਜਾਂਦੇ ਹਨ, ਤਾਂ ਇਹਨਾਂ ਵਿੱਚੋਂ ਕਿਹੜਾ ਸੱਜੇ ਤੋਂ ਸੱਤਵਾਂ ਹੋਵੇਗਾ?

Ans  1. 9

2. 1

3. 3

4. 4

Question ID : 441009100353

Option 1 ID : 441009399377

Option 2 ID : 441009399376

Option 3 ID : 441009399374

Option 4 ID : 441009399375

Status : Answered

Chosen Option : 3

Q.6 P is the brother of Q. Q is the son of R. R is the wife of S. How is P related to S?

Ans  1. Brother

2. Father

3. Husband

4. Son

Question ID : 441009101602

Option 1 ID : 441009404425

Option 2 ID : 441009404426

Option 3 ID : 441009404427

Option 4 ID : 441009404424

Status : Answered

Chosen Option : 2

Q.6 ਹੇਠ ਦਿੱਤਿਆਂ ਵਿੱਚੋਂ ਕਿਹੜਾ ਅੱਖਰ-ਸੰਖਿਆ ਸਮੂਹ ਦਿੱਤੀ ਗਈ ਲੜੀ ਨੂੰ ਤਰਕ ਸੰਗਤ ਢੰਗ ਨਾਲ ਪੂਰਾ ਕਰਨ ਲਈ ਪ੍ਰਸ਼ਨ ਚਿੰਨ੍ਹ (?) ਦੀ ਥਾਂ 'ਤੇ ਆਵੇਗਾ ?

V 1 W -3 X -7 Y -11 ?

Ans  1. Z-13

2. Z-15

3. A-13

4. A-15

Question ID : 44100989088

Option 1 ID : 441009354443

Option 2 ID : 441009354444

Option 3 ID : 441009354445

Option 4 ID : 441009354446

Status : Answered

Chosen Option : 2

Q.6 What should come in place of the question mark (?) in the given series?  
8  
108 120 60 72 36 48 24 ?

Ans  1. 48

2. 36

3. 30

4. 12

Question ID : 441009109277

Option 1 ID : 441009434831

Option 2 ID : 441009434829

Option 3 ID : 441009434828

Option 4 ID : 441009434830

Status : Answered

Chosen Option : 4

Q.6 ਹੇਠ ਦਿੱਤੀ ਅੱਖਰ ਲੜੀ ਦੇ ਹਵਾਲੇ ਤੋਂ ਅੱਗੇ ਦਿੱਤੇ ਪ੍ਰਸ਼ਨ ਦਾ ਉੱਤਰ ਦਿਓ।  
9 (ਖੱਬੇ) N A K B Q S P J M L R C Z E (ਸੱਜੇ)  
ਦਿੱਤੀ ਗਈ ਲੜੀ ਵਿੱਚ ਖੱਬੇ ਤੋਂ ਪੰਜਵਾਂ ਅੱਖਰ ਕਿਹੜਾ ਹੈ?

Ans  1. P

2. Q

3. B

4. S

Question ID : 441009101412

Option 1 ID : 441009403675

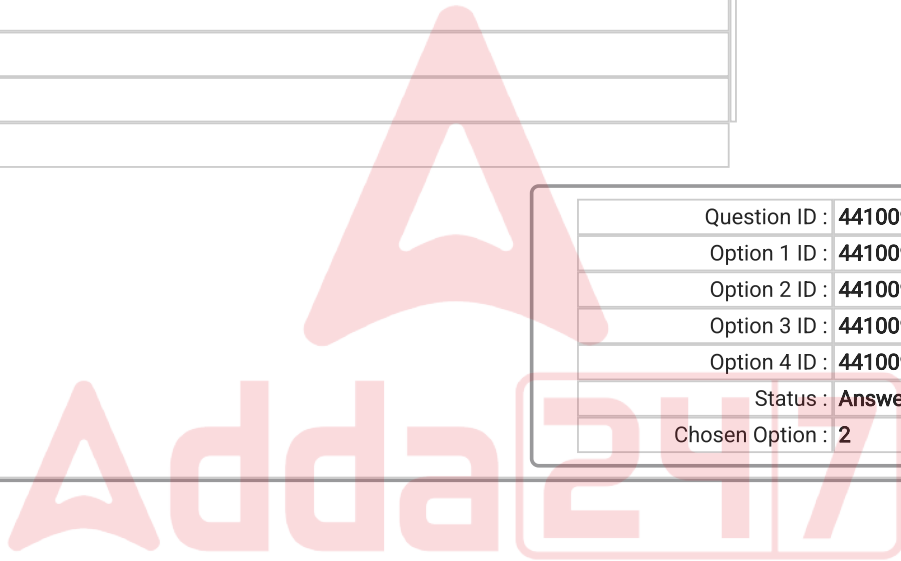
Option 2 ID : 441009403672

Option 3 ID : 441009403673

Option 4 ID : 441009403674

Status : Answered

Chosen Option : 2



Q.7 0 ਦਿੱਤੇ ਗਏ ਕਥਨਾਂ ਅਤੇ ਸਿੱਟਿਆਂ ਨੂੰ ਧਿਆਨ ਨਾਲ ਪੜ੍ਹੋ। ਇਹ ਮੰਨ ਕੇ ਕਿ ਕਥਨਾਂ ਵਿੱਚ ਦਿੱਤੀ ਗਈ ਜਾਣਕਾਰੀ ਸੱਚ ਹੈ, ਭਾਵੇਂ ਇਹ ਆਮ ਤੌਰ 'ਤੇ ਜਾਣੇ-ਪਛਾਣੇ ਤੱਥਾਂ ਤੋਂ ਭਿੰਨ ਜਾਪਦੀ ਹੈ, ਫੈਸਲਾ ਕਰੋ ਕਿ ਦਿੱਤੇ ਗਏ ਸਿੱਟਿਆਂ ਵਿੱਚੋਂ ਕਿਹੜਾ/ਕਿਹੜੇ, ਤਰਕਪੂਰਨ ਤੌਰ 'ਤੇ ਕਥਨਾਂ ਦੀ ਪਾਲਣਾ ਕਰਦਾ ਹੈ/ਕਰਦੇ ਹਨ।

ਕਥਨ:

ਸਾਰੀਆਂ ਖਿੜਕੀਆਂ, ਦਰਵਾਜ਼ੇ ਹਨ।  
ਸਾਰੇ ਦਰਵਾਜ਼ੇ, ਕੰਧਾਂ ਹਨ।

ਸਿੱਟੇ:

(I) ਸਾਰੀਆਂ ਖਿੜਕੀਆਂ, ਕੰਧਾਂ ਹਨ।  
(II) ਕੁਝ ਕੰਧਾਂ, ਖਿੜਕੀਆਂ ਹਨ।

Ans  1. ਸਿੱਟੇ (I) ਅਤੇ (II) ਦੋਵੇਂ ਪਾਲਣ ਕਰਦੇ ਹਨ।

2. ਸਿਰਫ਼ ਸਿੱਟਾ (I) ਪਾਲਣ ਕਰਦਾ ਹੈ।

3. ਨਾ ਤਾਂ ਸਿੱਟਾ (I) ਅਤੇ ਨਾ ਹੀ (II) ਪਾਲਣਾ ਕਰਦਾ ਹੈ।

4. ਸਿਰਫ਼ ਸਿੱਟਾ (II) ਪਾਲਣ ਕਰਦਾ ਹੈ।

Question ID : 441009128556

Option 1 ID : 441009510841

Option 2 ID : 441009510839

Option 3 ID : 441009510842

Option 4 ID : 441009510840

Status : Answered

Chosen Option : 2

Q.7 1 What should come in place of the question mark (?) in the given series?

105 96 87 78 69 60 ?

Ans  1. 43

2. 51

3. 55

4. 48

Question ID : 44100987402

Option 1 ID : 441009347466

Option 2 ID : 441009347464

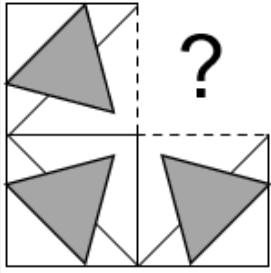
Option 3 ID : 441009347463

Option 4 ID : 441009347465

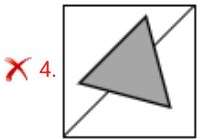
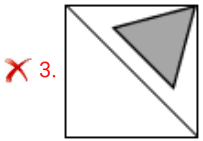
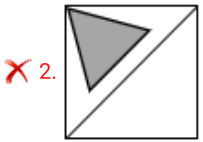
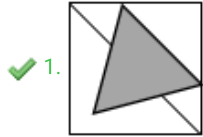
Status : Answered

Chosen Option : 2

Q.7 ਪੈਟਰਨ ਨੂੰ ਪੂਰਾ ਕਰਨ ਲਈ ਹੇਠਾਂ ਦਿੱਤੇ ਚਿੱਤਰ ਵਿੱਚ ਪ੍ਰਸ਼ਨ ਚਿੰਨ੍ਹ (?) ਦੀ ਥਾਂ ਲੈਣ ਵਾਲੇ ਵਿਕਲਪ ਚਿੱਤਰ ਦੀ ਚੋਣ ਕਰੋ।  
2



Ans



Question ID :	441009114924
Option 1 ID :	441009457099
Option 2 ID :	441009457098
Option 3 ID :	441009457097
Option 4 ID :	441009457100
Status :	Answered
Chosen Option :	1

Q.7 SMK ਅੰਗਰੇਜ਼ੀ ਵਰਣਮਾਲਾ ਦੇ ਫ਼ੋਮ ਦੇ ਆਧਾਰ 'ਤੇ ਇੱਕ ਖਾਸ ਤਰੀਕੇ ਨਾਲ RLJ ਨਾਲ ਸੰਬੰਧਿਤ ਹੈ। MKP ਇਸੇ ਤਰ੍ਹਾਂ LJO ਨਾਲ ਸੰਬੰਧਿਤ ਹੈ। ਉਸੇ ਤਰਕ ਦੀ ਪਾਲਣਾ ਕਰਦੇ ਹੋਏ, ਦਿੱਤੇ ਗਏ ਵਿਕਲਪਾਂ ਵਿੱਚੋਂ FTE ਕਿਸ ਨਾਲ ਸੰਬੰਧਿਤ ਹੈ?  
3

Ans

✗ 1. GSD

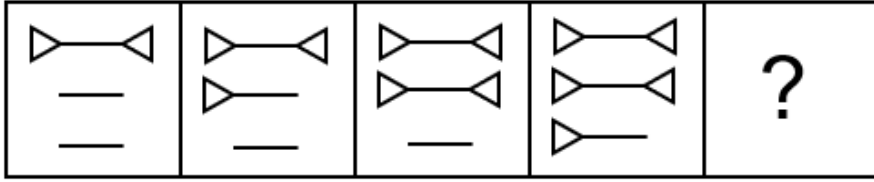
✗ 2. GTD

✓ 3. ESD

✗ 4. FSD

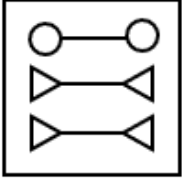
Question ID :	441009101530
Option 1 ID :	441009404137
Option 2 ID :	441009404139
Option 3 ID :	441009404136
Option 4 ID :	441009404138
Status :	Answered
Chosen Option :	3

Q.7 ਵਿਕਲਪਾਂ ਵਿੱਚ ਦਿੱਤੀ ਗਈ ਆਕ੍ਰਿਤੀ ਦੀ ਪਛਾਣ ਕਰੋ ਜਿਸਨੂੰ ਪ੍ਰਸ਼ਨ ਚਿੰਨ੍ਹ (?) ਦੀ ਥਾਂ 'ਤੇ ਰੱਖਣ 'ਤੇ ਲੜੀ ਤਰਕਪੂਰਨ ਤੌਰ 'ਤੇ ਪੂਰੀ ਹੋ ਜਾਵੇਗੀ।

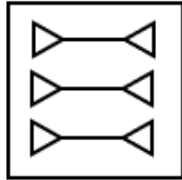


Ans

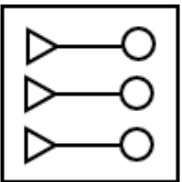
✗ 1.



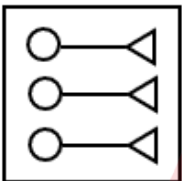
✓ 2.



✗ 3.



✗ 4.



Question ID :	441009109789
Option 1 ID :	441009447078
Option 2 ID :	441009447075
Option 3 ID :	441009447076
Option 4 ID :	441009447077
Status :	Answered
Chosen Option :	2

Q.7 X, Y ਦੀ ਭੈਣ ਹੈ। Y, Z ਦੀ ਪੁੱਤਰੀ ਹੈ। Z, W ਦਾ ਪਤੀ ਹੈ। X ਦਾ W ਨਾਲ ਕੀ ਸੰਬੰਧ ਹੈ?  
5

- Ans
- 1. ਭੈਣ
  - 2. ਮਾਤਾ
  - 3. ਪੁੱਤਰੀ
  - 4. ਪਤਨੀ

Question ID : 441009101603

Option 1 ID : 441009404430

Option 2 ID : 441009404429

Option 3 ID : 441009404428

Option 4 ID : 441009404431

Status : Answered

Chosen Option : 3

Section : English Language Skills and Punjabi Language Skills

Q.7 ਅੰਗਰੇਜ਼ੀ ਵਿੱਚ ਦਿੱਤੇ ਸ਼ਬਦ ਦਾ ਪੰਜਾਬੀ ਵਿੱਚ ਅਨੁਵਾਦ ਕਰੋ।  
6

Basket

- Ans
- 1. ਟੋਕਰੀ
  - 2. ਝੋਲਾ
  - 3. ਥੈਲਾ
  - 4. ਬਸਤਾ

Question ID : 441009308701

Option 1 ID : 4410091201481

Option 2 ID : 4410091201483

Option 3 ID : 4410091201480

Option 4 ID : 4410091201482

Status : Answered

Chosen Option : 1

Q.7 Select the correct spelling of the underlined incorrectly spelt word in the given sentence.  
7

His argument lacked cohearance, making it difficult to understand.

- Ans
- 1. cohearance
  - 2. coherence
  - 3. coherense
  - 4. coheerance

Question ID : 441009126834

Option 1 ID : 441009504021

Option 2 ID : 441009504020

Option 3 ID : 441009504022

Option 4 ID : 441009504023

Status : Answered

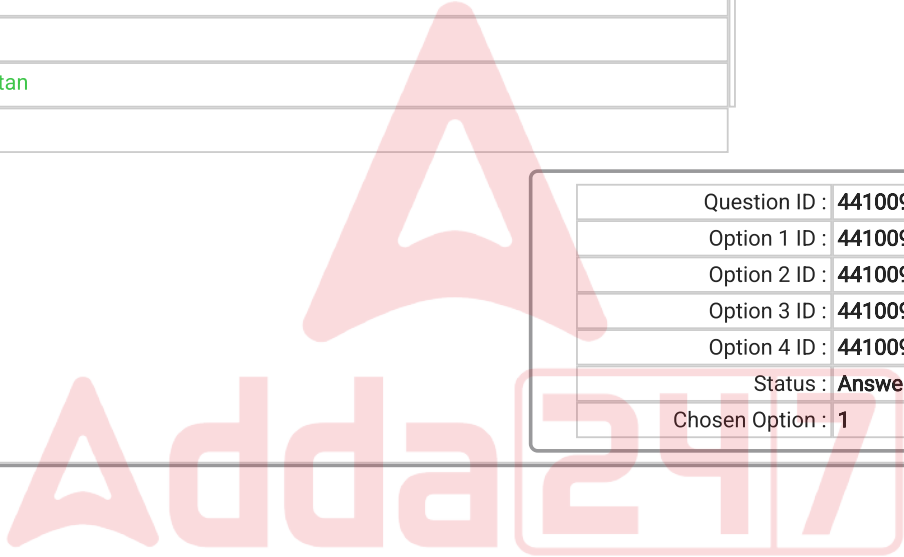
Chosen Option : 2

Q.7 8	Select the most appropriate synonym of the given word. Proliferation
Ans	<input type="checkbox"/> 1. Wane
	<input checked="" type="checkbox"/> 2. Escalate
	<input type="checkbox"/> 3. Abatement
	<input type="checkbox"/> 4. Diminution

Question ID :	44100983496
Option 1 ID :	441009331741
Option 2 ID :	441009331739
Option 3 ID :	441009331738
Option 4 ID :	441009331740
Status :	Answered
Chosen Option :	2

Q.7 9	Select the most appropriate one-word substitute for the given phrase. Someone who regards the world as their country
Ans	<input type="checkbox"/> 1. Immigrant
	<input type="checkbox"/> 2. Nationalist
	<input checked="" type="checkbox"/> 3. Cosmopolitan
	<input type="checkbox"/> 4. Patriot

Question ID :	44100985928
Option 1 ID :	441009341424
Option 2 ID :	441009341422
Option 3 ID :	441009341425
Option 4 ID :	441009341423
Status :	Answered
Chosen Option :	1



Q.8  
0 Sentences of a paragraph are given below in jumbled order. Arrange the sentences in the correct order to form a meaningful and coherent paragraph.

- A. Digital transformation has redefined industries by automating tasks and improving efficiency.
- B. Companies that fail to adopt new technologies risk becoming obsolete in a rapidly evolving market.
- C. Cloud computing, artificial intelligence, and big data analytics are at the forefront of this revolution.
- D. As a result, businesses are increasingly investing in technological advancements to stay competitive.

- Ans
- 1. ACBD
  - 2. BACD
  - 3. ACDB
  - 4. DCBA

Question ID :	44100978488
Option 1 ID :	441009311967
Option 2 ID :	441009311970
Option 3 ID :	441009311969
Option 4 ID :	441009311968
Status :	Answered
Chosen Option :	4

Q.8  
1 Select the most appropriate option to fill in the blank.  
Furious at the unexpected turn of events, he \_\_\_\_\_ under his breath as he struggled to fix the broken machine.

- Ans
- 1. cursed
  - 2. apologised
  - 3. hesitated
  - 4. whispered

Question ID :	44100978460
Option 1 ID :	441009311856
Option 2 ID :	441009311855
Option 3 ID :	441009311858
Option 4 ID :	441009311857
Status :	Answered
Chosen Option :	3

Q.8 2	ਅੰਗਰੇਜ਼ੀ ਸ਼ਬਦ Masses ਦੇ ਪੰਜਾਬੀ ਵਿੱਚ ਅਨੁਵਾਦ ਲਈ ਸਹੀ ਵਿਕਲਪ ਚੁਣੋ।
Ans	<input checked="" type="checkbox"/> 1. ਵਿਦਵਾਨ <input checked="" type="checkbox"/> 2. ਸੰਵੇਗ <input checked="" type="checkbox"/> 3. ਫੁਟਕਲ <input checked="" type="checkbox"/> 4. ਜਨ-ਸਥਾਰਨ

Question ID :	441009281126
Option 1 ID :	4410091092434
Option 2 ID :	4410091092433
Option 3 ID :	4410091092431
Option 4 ID :	4410091092432
Status :	Answered
Chosen Option :	1

<b>Comprehension:</b>	
Read the given passage and answer the questions that follow.	
<p>Rabindranath Tagore, while not a formal philosopher, articulated a profound and unique worldview that permeated his literary and intellectual contributions. His perspective, a spiritual humanism, intricately weaved together classical Indian philosophical concepts with Western thought, resulting in a distinctive synthesis. Central to Tagore's philosophy was the belief in humanity's potential for self-realisation. He posited that individuals could attain freedom and fulfillment through the cultivation of love, the pursuit of knowledge and the achievement of genuine liberty. This journey, he argued, necessitated a transcendence of the limited self, a connection with the universal Being. Tagore envisioned a path where individuals, by bridging the gap between their personal existence and the broader cosmic reality, could unlock their inherent capabilities. He emphasised the importance of fostering a harmonious relationship between the individual and the universal, believing that this connection was the key to unlocking true human potential. This philosophy, deeply rooted in both Eastern and Western intellectual traditions, reflected Tagore's original and complex understanding of human existence and its place in the universe.</p>	

<b>SubQuestion No : 83</b>	
Q.8 3	Why did Tagore emphasise a harmonious relationship between the individual and the universal?
Ans	<input checked="" type="checkbox"/> 1. To unlock true human potential <input checked="" type="checkbox"/> 2. To establish political dominance <input checked="" type="checkbox"/> 3. To create economic disparities <input checked="" type="checkbox"/> 4. To promote social diversity

Question ID :	441009175674
Option 1 ID :	441009694729
Option 2 ID :	441009694728
Option 3 ID :	441009694730
Option 4 ID :	441009694731
Status :	Answered
Chosen Option :	1

**Comprehension:**

Read the given passage and answer the questions that follow.

Rabindranath Tagore, while not a formal philosopher, articulated a profound and unique worldview that permeated his literary and intellectual contributions. His perspective, a spiritual humanism, intricately weaved together classical Indian philosophical concepts with Western thought, resulting in a distinctive synthesis. Central to Tagore's philosophy was the belief in humanity's potential for self-realisation. He posited that individuals could attain freedom and fulfillment through the cultivation of love, the pursuit of knowledge and the achievement of genuine liberty. This journey, he argued, necessitated a transcendence of the limited self, a connection with the universal Being. Tagore envisioned a path where individuals, by bridging the gap between their personal existence and the broader cosmic reality, could unlock their inherent capabilities. He emphasised the importance of fostering a harmonious relationship between the individual and the universal, believing that this connection was the key to unlocking true human potential. This philosophy, deeply rooted in both Eastern and Western intellectual traditions, reflected Tagore's original and complex understanding of human existence and its place in the universe.

<b>SubQuestion No : 84</b>	
<b>Q.8</b>	<b>What was the core belief central to Tagore's philosophy?</b>
<b>4</b>	
<b>Ans</b>	<input checked="" type="checkbox"/> 1. Humanity's potential for self-realisation <input type="checkbox"/> 2. The importance of economic stability <input type="checkbox"/> 3. The power of political revolution <input type="checkbox"/> 4. The necessity of self-realisation

Question ID :	441009175675
Option 1 ID :	441009694734
Option 2 ID :	441009694733
Option 3 ID :	441009694735
Option 4 ID :	441009694732
Status :	Answered
Chosen Option :	1

**Comprehension:**

Read the given passage and answer the questions that follow.

Rabindranath Tagore, while not a formal philosopher, articulated a profound and unique worldview that permeated his literary and intellectual contributions. His perspective, a spiritual humanism, intricately weaved together classical Indian philosophical concepts with Western thought, resulting in a distinctive synthesis. Central to Tagore's philosophy was the belief in humanity's potential for self-realisation. He posited that individuals could attain freedom and fulfillment through the cultivation of love, the pursuit of knowledge and the achievement of genuine liberty. This journey, he argued, necessitated a transcendence of the limited self, a connection with the universal Being. Tagore envisioned a path where individuals, by bridging the gap between their personal existence and the broader cosmic reality, could unlock their inherent capabilities. He emphasised the importance of fostering a harmonious relationship between the individual and the universal, believing that this connection was the key to unlocking true human potential. This philosophy, deeply rooted in both Eastern and Western intellectual traditions, reflected Tagore's original and complex understanding of human existence and its place in the universe.

- SubQuestion No : 85**
- Q.8** What did Tagore posit about the journey to attain freedom and fulfillment?  
5
- Ans**
- 1. That it is solely dependent on external factors and chance
  - 2. That it is a rapid process achieved through religious actions
  - 3. That it necessitates a transcendence of the limited self
  - 4. That it is necessary but irrelevant to human existence

Question ID :	441009175673
Option 1 ID :	441009694727
Option 2 ID :	441009694725
Option 3 ID :	441009694724
Option 4 ID :	441009694726
Status :	Answered
Chosen Option :	4

- Q.8** ਹੇਠ ਲਿਖਿਆਂ ਵਿੱਚੋਂ ਸ਼ੁੱਧ ਵਾਕ ਦੀ ਚੋਣ ਕਰੋ:-  
6
- Ans**
- 1. ਤੁਸੀਂ ਕਿੱਥੋਂ ਦੇ ਰਹਿਣ ਵਾਲੇ ਹੋ?
  - 2. ਤੁਸੀਂ ਕਿੱਥੋਂ ਦਾ ਰਹਿਣ ਵਾਲੇ ਹੋ।
  - 3. ਤੁਸੀਂ ਕਿੱਥੋਂ ਦੇ ਰਹਿਣ ਵਾਲਾ ਹੋ?
  - 4. ਤੁਸੀਂ ਕਿੱਥੋਂ ਦੇ ਰਹਿਣ ਵਾਲੀ ਹੈ?

Question ID :	441009271108
Option 1 ID :	4410091053262
Option 2 ID :	4410091053260
Option 3 ID :	4410091053261
Option 4 ID :	4410091053259
Status :	Answered
Chosen Option :	1

Q.8 ਸੋਮਵਾਰ ਤੋਂ ਪਹਿਲਾਂ ਇਕ ਦਿਨ ਛੱਡ ਕੇ ਕਿਹੜਾ ਦਿਨ ਹੁੰਦਾ ਹੈ?  
7

- Ans
- 1. ਮੰਗਲਵਾਰ
  - 2. ਸ਼ਨੀਵਾਰ
  - 3. ਵੀਰਵਾਰ
  - 4. ਬੁੱਧਵਾਰ

Question ID :	441009244271
Option 1 ID :	441009953864
Option 2 ID :	441009953867
Option 3 ID :	441009953866
Option 4 ID :	441009953865
Status :	Answered
Chosen Option :	2

Q.8 ਹੇਠ ਦਿੱਤੇ ਸ਼ਬਦਾਂ ਵਿੱਚੋਂ ਸ਼ੁੱਧ ਸ਼ਬਦ ਦੀ ਪਹਿਚਾਣ ਕਰੋ।  
8

- Ans
- 1. ਆਰੰਭ
  - 2. ਰੱਖ-ਰਖਾ
  - 3. ਜਬਰ-ਜਨਾਹ
  - 4. ਦੇਸ-ਵਿਦੇਸ਼

Question ID :	441009267331
Option 1 ID :	4410091038577
Option 2 ID :	4410091038576
Option 3 ID :	4410091038575
Option 4 ID :	4410091038578
Status :	Answered
Chosen Option :	2

Q.8 ਹੇਠ ਲਿਖਿਆਂ ਵਿੱਚੋਂ ਕਿਹੜਾ ਸ਼ਬਦ-ਜੋੜ ਅਸੁੱਧ ਹੈ?  
9

- Ans
- 1. ਪ੍ਰਦਰਸ਼ਨੀ
  - 2. ਨਿਰਯਾਤ
  - 3. ਨੁਮਾਈਸ਼
  - 4. ਨਵੀਨ

Question ID :	441009244421
Option 1 ID :	441009954465
Option 2 ID :	441009954466
Option 3 ID :	441009954467
Option 4 ID :	441009954464
Status :	Answered
Chosen Option :	2

Q.9 0 ਹੇਠਾਂ ਦਿੱਤੇ ਪੰਜਾਬੀ ਵਾਕ ਦਾ ਸਭ ਤੋਂ ਢੁਕਵਾਂ ਅੰਗਰੇਜ਼ੀ ਅਨੁਵਾਦ ਚੁਣੋ:  
ਪੰਜਾਬੀ ਵਾਕ: "ਮੈਂ ਪਿਛਲੇ ਦਸ ਸਾਲਾਂ ਤੋਂ ਇੱਥੇ ਰਹਿ ਰਿਹਾ ਹਾਂ।"

- Ans
- 1. I lived here for the last ten years.
  - 2. I live here for the last ten years.
  - 3. I have lived here for the last ten years.
  - 4. I have been living here for the last ten years.

Question ID :	441009464061
Option 1 ID :	4410091814832
Option 2 ID :	4410091814829
Option 3 ID :	4410091814830
Option 4 ID :	4410091814831
Status :	Answered
Chosen Option :	4

Q.9 1 ਨਵਾਂ ਦਾ ਵਿਰੋਧੀ ਸ਼ਬਦ ਹੈ?

- Ans
- 1. ਤਾਜ਼ਾ
  - 2. ਉਧੜਿਆ
  - 3. ਪਾਟਿਆ
  - 4. ਪੁਰਾਣਾ

Question ID :	441009247388
Option 1 ID :	441009963888
Option 2 ID :	441009963886
Option 3 ID :	441009963885
Option 4 ID :	441009963887
Status :	Answered
Chosen Option :	4

Q.9 2 ਹੇਠ ਲਿਖੇ ਵਿਕਲਪਾਂ ਵਿਚੋਂ 'ਅਤਿਆਚਾਰ' ਦੇ ਸਹੀ ਸਮਾਨਾਰਥਕ ਸ਼ਬਦ ਦੀ ਚੋਣ ਕਰੋ:

- Ans
- 1. ਦੁਸ਼ਮਨ
  - 2. ਵੈਰਾਗ
  - 3. ਤਿਆਗ
  - 4. ਜ਼ੁਲਮ

Question ID :	441009273491
Option 1 ID :	4410091062332
Option 2 ID :	4410091062333
Option 3 ID :	4410091062334
Option 4 ID :	4410091062331
Status :	Answered
Chosen Option :	4

**Comprehension:**

ਦਿੱਤੇ ਗਏ ਪੈਰੇ ਨੂੰ ਧਿਆਨ ਨਾਲ ਪੜ੍ਹੋ ਅਤੇ ਇਸ ਦੇ ਆਧਾਰ 'ਤੇ ਪੁੱਛੇ ਗਏ ਪ੍ਰਸ਼ਨ ਦਾ ਉੱਤਰ ਦਿਓ।

ਮਾਤ-ਭਾਸ਼ਾ ਦੀ ਸਿੱਖਿਆ ਤੋਂ ਬਗੈਰ ਕੋਈ ਵਿਦਿਆਰਥੀ ਸਿੱਖਿਆ ਦੇ ਖੇਤਰ ਵਿੱਚ ਸਿਖਰਾਂ ਨੂੰ ਨਹੀਂ ਛੋਹ ਸਕਦਾ। ਉਹ ਸਾਰੀ ਉਮਰ ਲੰਗੜਾ ਕੇ ਤੁਰਦਾ ਹੈ ਅਤੇ ਆਪਣੇ ਪੈਰਾਂ 'ਤੇ ਸਿੱਧਾ ਖੜ੍ਹਾ ਨਹੀਂ ਹੋ ਸਕਦਾ। ਮਾਤ-ਭਾਸ਼ਾ ਵਿਚਾਰਾਂ ਨੂੰ ਪ੍ਰਗਟਾਉਣ ਦਾ ਇੱਕੋ-ਇੱਕ ਉੱਤਮ ਸਾਧਨ ਹੈ। ਇਹੋ ਕਾਰਣ ਹੈ ਕਿ ਵਿਦਵਾਨਾਂ ਨੇ ਮਾਤ-ਭਾਸ਼ਾ ਨੂੰ ਹੀ ਸਿੱਖਿਆ ਦੇਣ ਦਾ ਯੋਗ ਅਤੇ ਸਹੀ ਮਾਧਿਅਮ ਮੰਨਿਆ ਹੈ। ਕਿਸੇ ਦੂਜੀ ਭਾਸ਼ਾ ਨੂੰ ਸਿੱਖਣ-ਸਿਖਾਉਣ ਵਿੱਚ ਕਾਫ਼ੀ ਸਮਾਂ ਲੱਗ ਜਾਂਦਾ ਹੈ ਜਿਹੜਾ ਕਿ ਗਿਆਨ-ਵਿਗਿਆਨ ਦੀ ਪ੍ਰਾਪਤੀ ਲਈ ਵਰਤਿਆ ਜਾ ਸਕਦਾ ਹੈ। ਸਿੱਖਿਆ ਦੇ ਖੇਤਰ ਵਿੱਚ ਜਿੰਨੇ ਵੀ ਦਾਰਸ਼ਨਿਕ ਹਨ, ਉਹਨਾਂ ਨੇ ਸਦਾ ਮਾਤ-ਭਾਸ਼ਾ ਨੂੰ ਸਿੱਖਿਆ ਦਾ ਮਾਧਿਅਮ ਬਣਾਉਣ ਉੱਤੇ ਜ਼ੋਰ ਦਿੱਤਾ ਹੈ। ਇਹ ਗੱਲ ਬੜੇ ਹੀ ਦੁੱਖ ਨਾਲ ਕਹਿਣੀ ਪੈਂਦੀ ਹੈ ਕਿ ਸਾਡੇ ਦੇਸ਼ਵਾਸੀਆਂ ਨੂੰ ਅਜੇ ਤੱਕ ਇਸ ਦੀ ਸਮਝ ਨਹੀਂ ਆਈ। ਅਸੀਂ ਅਜੇ ਤੱਕ ਵੀ ਵਿਦੇਸ਼ੀ ਭਾਸ਼ਾ ਦੇ ਮਾਧਿਅਮ ਰਾਹੀਂ ਆਪਣੇ ਬੱਚਿਆਂ ਨੂੰ ਸਿੱਖਿਆ ਦਿਵਾਉਣੀ ਚਾਹੁੰਦੇ ਹਾਂ। ਅਮੀਰ ਪਰਿਵਾਰ ਦੇ ਬੱਚੇ ਅੰਗਰੇਜ਼ੀ ਭਾਸ਼ਾ ਰਾਹੀਂ ਦਿੱਤੀ ਜਾਂਦੀ ਸਿੱਖਿਆ ਪ੍ਰਾਪਤ ਕਰਨ ਵਿੱਚ ਆਪਣੀ ਸ਼ਾਨ ਸਮਝਦੇ ਹਨ। ਸਾਨੂੰ ਇਸ ਸੰਬੰਧੀ ਗੰਭੀਰ ਵਿਚਾਰ ਕਰਨ ਦੀ ਲੋੜ ਹੈ। ਅਸੀਂ ਬਹਾਨੇ ਲਾ ਰਹੇ ਹਾਂ ਕਿ ਅੰਗਰੇਜ਼ੀ ਮਾਧਿਅਮ ਹੀ ਸਾਡੇ ਲਈ ਕਲਿਆਣਕਾਰੀ ਹੈ, ਪਰ ਜੇ ਥੋੜ੍ਹਾ ਗੰਭੀਰਤਾ ਨਾਲ ਵਿਚਾਰੀਏ ਤਾਂ ਸਾਨੂੰ ਆਪਣੀ ਗਲਤੀ ਦਾ ਛੇਤੀ ਹੀ ਪਤਾ ਲੱਗ ਜਾਂਦਾ ਹੈ।

**SubQuestion No : 93**

**Q.9** ਮਾਤ-ਭਾਸ਼ਾ ਨੂੰ ਸਿੱਖਿਆ ਦੇਣ ਲਈ ਸਭ ਤੋਂ ਯੋਗ ਅਤੇ ਸਹੀ ਮਾਧਿਅਮ ਕੌਣ ਮੰਨਦੇ ਹਨ?

3

Ans  1. ਮਾਤ-ਪਿਤਾ

2. ਵਿਦਿਆਰਥੀ

3. ਵਿਦਵਾਨ ਅਤੇ ਦਾਰਸ਼ਨਿਕ

4. ਅਧਿਆਪਕ

Question ID : 441009330291

Option 1 ID : 4410091287675

Option 2 ID : 4410091287674

Option 3 ID : 4410091287676

Option 4 ID : 4410091287677

Status : Answered

Chosen Option : 3

**Comprehension:**

ਦਿੱਤੇ ਗਏ ਪੈਰੇ ਨੂੰ ਧਿਆਨ ਨਾਲ ਪੜ੍ਹੋ ਅਤੇ ਇਸ ਦੇ ਆਧਾਰ 'ਤੇ ਪੁੱਛੇ ਗਏ ਪ੍ਰਸ਼ਨ ਦਾ ਉੱਤਰ ਦਿਓ।

ਮਾਤ-ਭਾਸ਼ਾ ਦੀ ਸਿੱਖਿਆ ਤੋਂ ਬਗੈਰ ਕੋਈ ਵਿਦਿਆਰਥੀ ਸਿੱਖਿਆ ਦੇ ਖੇਤਰ ਵਿੱਚ ਸਿਖਰਾਂ ਨੂੰ ਨਹੀਂ ਛੋਹ ਸਕਦਾ। ਉਹ ਸਾਰੀ ਉਮਰ ਲੰਗੜਾ ਕੇ ਤੁਰਦਾ ਹੈ ਅਤੇ ਆਪਣੇ ਪੈਰਾਂ 'ਤੇ ਸਿੱਧਾ ਖੜ੍ਹਾ ਨਹੀਂ ਹੋ ਸਕਦਾ। ਮਾਤ-ਭਾਸ਼ਾ ਵਿਚਾਰਾਂ ਨੂੰ ਪ੍ਰਗਟਾਉਣ ਦਾ ਇੱਕੋ-ਇੱਕ ਉੱਤਮ ਸਾਧਨ ਹੈ। ਇਹੋ ਕਾਰਣ ਹੈ ਕਿ ਵਿਦਵਾਨਾਂ ਨੇ ਮਾਤ-ਭਾਸ਼ਾ ਨੂੰ ਹੀ ਸਿੱਖਿਆ ਦੇਣ ਦਾ ਯੋਗ ਅਤੇ ਸਹੀ ਮਾਧਿਅਮ ਮੰਨਿਆ ਹੈ। ਕਿਸੇ ਦੂਜੀ ਭਾਸ਼ਾ ਨੂੰ ਸਿੱਖਣ-ਸਿਖਾਉਣ ਵਿੱਚ ਕਾਫ਼ੀ ਸਮਾਂ ਲੱਗ ਜਾਂਦਾ ਹੈ ਜਿਹੜਾ ਕਿ ਗਿਆਨ-ਵਿਗਿਆਨ ਦੀ ਪ੍ਰਾਪਤੀ ਲਈ ਵਰਤਿਆ ਜਾ ਸਕਦਾ ਹੈ। ਸਿੱਖਿਆ ਦੇ ਖੇਤਰ ਵਿੱਚ ਜਿੰਨੇ ਵੀ ਦਾਰਸ਼ਨਿਕ ਹਨ, ਉਹਨਾਂ ਨੇ ਸਦਾ ਮਾਤ-ਭਾਸ਼ਾ ਨੂੰ ਸਿੱਖਿਆ ਦਾ ਮਾਧਿਅਮ ਬਣਾਉਣ ਉੱਤੇ ਜ਼ੋਰ ਦਿੱਤਾ ਹੈ। ਇਹ ਗੱਲ ਬੜੇ ਹੀ ਦੁੱਖ ਨਾਲ ਕਹਿਣੀ ਪੈਂਦੀ ਹੈ ਕਿ ਸਾਡੇ ਦੇਸ਼ਵਾਸੀਆਂ ਨੂੰ ਅਜੇ ਤੱਕ ਇਸ ਦੀ ਸਮਝ ਨਹੀਂ ਆਈ। ਅਸੀਂ ਅਜੇ ਤੱਕ ਵੀ ਵਿਦੇਸ਼ੀ ਭਾਸ਼ਾ ਦੇ ਮਾਧਿਅਮ ਰਾਹੀਂ ਆਪਣੇ ਬੱਚਿਆਂ ਨੂੰ ਸਿੱਖਿਆ ਦਿਵਾਉਣੀ ਚਾਹੁੰਦੇ ਹਾਂ। ਅਮੀਰ ਪਰਿਵਾਰ ਦੇ ਬੱਚੇ ਅੰਗਰੇਜ਼ੀ ਭਾਸ਼ਾ ਰਾਹੀਂ ਦਿੱਤੀ ਜਾਂਦੀ ਸਿੱਖਿਆ ਪ੍ਰਾਪਤ ਕਰਨ ਵਿੱਚ ਆਪਣੀ ਸ਼ਾਨ ਸਮਝਦੇ ਹਨ। ਸਾਨੂੰ ਇਸ ਸੰਬੰਧੀ ਗੰਭੀਰ ਵਿਚਾਰ ਕਰਨ ਦੀ ਲੋੜ ਹੈ। ਅਸੀਂ ਬਹਾਨੇ ਲਾ ਰਹੇ ਹਾਂ ਕਿ ਅੰਗਰੇਜ਼ੀ ਮਾਧਿਅਮ ਹੀ ਸਾਡੇ ਲਈ ਕਲਿਆਣਕਾਰੀ ਹੈ, ਪਰ ਜੇ ਥੋੜ੍ਹਾ ਗੰਭੀਰਤਾ ਨਾਲ ਵਿਚਾਰੀਏ ਤਾਂ ਸਾਨੂੰ ਆਪਣੀ ਗਲਤੀ ਦਾ ਛੇਤੀ ਹੀ ਪਤਾ ਲੱਗ ਜਾਂਦਾ ਹੈ।

**SubQuestion No : 94**

**Q.9** ਪ੍ਰਸ਼ਨ: ਹੇਠਾਂ ਦਿੱਤੇ ਕਿਸ ਸਿਰਲੇਖ ਨੂੰ ਪੈਰੇ ਲਈ ਸਭ ਤੋਂ ਉਚਿਤ ਮੰਨਿਆ ਜਾ ਸਕਦਾ ਹੈ?

4

**Ans**  1. ਵਿਦਿਆਰਥੀਆਂ ਦੀਆਂ ਸਮੱਸਿਆਵਾਂ

2. ਮਾਤ-ਭਾਸ਼ਾ: ਸਿੱਖਿਆ ਦਾ ਆਧਾਰ

3. ਵਿਦੇਸ਼ੀ ਭਾਸ਼ਾ ਦੀ ਮਹੱਤਤਾ

4. ਅੰਗਰੇਜ਼ੀ ਸਿੱਖਿਆ ਦੀ ਲੋੜ

Question ID : 441009330292

Option 1 ID : 4410091287681

Option 2 ID : 4410091287680

Option 3 ID : 4410091287678

Option 4 ID : 4410091287679

Status : Answered

Chosen Option : 3

**Comprehension:**

ਦਿੱਤੇ ਗਏ ਪੈਰੇ ਨੂੰ ਧਿਆਨ ਨਾਲ ਪੜ੍ਹੋ ਅਤੇ ਇਸ ਦੇ ਆਧਾਰ 'ਤੇ ਪੁੱਛੇ ਗਏ ਪ੍ਰਸ਼ਨ ਦਾ ਉੱਤਰ ਦਿਓ।

ਮਾਤ-ਭਾਸ਼ਾ ਦੀ ਸਿੱਖਿਆ ਤੋਂ ਬਗੈਰ ਕੋਈ ਵਿਦਿਆਰਥੀ ਸਿੱਖਿਆ ਦੇ ਖੇਤਰ ਵਿੱਚ ਸਿਖਰਾਂ ਨੂੰ ਨਹੀਂ ਛੋਹ ਸਕਦਾ। ਉਹ ਸਾਰੀ ਉਮਰ ਲੰਗੜਾ ਕੇ ਤੁਰਦਾ ਹੈ ਅਤੇ ਆਪਣੇ ਪੈਰਾਂ 'ਤੇ ਸਿੱਧਾ ਖੜ੍ਹਾ ਨਹੀਂ ਹੋ ਸਕਦਾ। ਮਾਤ-ਭਾਸ਼ਾ ਵਿਚਾਰਾਂ ਨੂੰ ਪ੍ਰਗਟਾਉਣ ਦਾ ਇੱਕੋ-ਇੱਕ ਉੱਤਮ ਸਾਧਨ ਹੈ। ਇਹੋ ਕਾਰਣ ਹੈ ਕਿ ਵਿਦਵਾਨਾਂ ਨੇ ਮਾਤ-ਭਾਸ਼ਾ ਨੂੰ ਹੀ ਸਿੱਖਿਆ ਦੇਣ ਦਾ ਯੋਗ ਅਤੇ ਸਹੀ ਮਾਧਿਅਮ ਮੰਨਿਆ ਹੈ। ਕਿਸੇ ਦੂਜੀ ਭਾਸ਼ਾ ਨੂੰ ਸਿੱਖਣ-ਸਿਖਾਉਣ ਵਿੱਚ ਕਾਫ਼ੀ ਸਮਾਂ ਲੱਗ ਜਾਂਦਾ ਹੈ ਜਿਹੜਾ ਕਿ ਗਿਆਨ-ਵਿਗਿਆਨ ਦੀ ਪ੍ਰਾਪਤੀ ਲਈ ਵਰਤਿਆ ਜਾ ਸਕਦਾ ਹੈ। ਸਿੱਖਿਆ ਦੇ ਖੇਤਰ ਵਿੱਚ ਜਿੰਨੇ ਵੀ ਦਾਰਸ਼ਨਿਕ ਹਨ, ਉਹਨਾਂ ਨੇ ਸਦਾ ਮਾਤ-ਭਾਸ਼ਾ ਨੂੰ ਸਿੱਖਿਆ ਦਾ ਮਾਧਿਅਮ ਬਣਾਉਣ ਉੱਤੇ ਜ਼ੋਰ ਦਿੱਤਾ ਹੈ। ਇਹ ਗੱਲ ਬੜੇ ਹੀ ਦੁੱਖ ਨਾਲ ਕਹਿਣੀ ਪੈਂਦੀ ਹੈ ਕਿ ਸਾਡੇ ਦੇਸ਼ਵਾਸੀਆਂ ਨੂੰ ਅਜੇ ਤੱਕ ਇਸ ਦੀ ਸਮਝ ਨਹੀਂ ਆਈ। ਅਸੀਂ ਅਜੇ ਤੱਕ ਵੀ ਵਿਦੇਸ਼ੀ ਭਾਸ਼ਾ ਦੇ ਮਾਧਿਅਮ ਰਾਹੀਂ ਆਪਣੇ ਬੱਚਿਆਂ ਨੂੰ ਸਿੱਖਿਆ ਦਿਵਾਉਣੀ ਚਾਹੁੰਦੇ ਹਾਂ। ਅਮੀਰ ਪਰਿਵਾਰ ਦੇ ਬੱਚੇ ਅੰਗਰੇਜ਼ੀ ਭਾਸ਼ਾ ਰਾਹੀਂ ਦਿੱਤੀ ਜਾਂਦੀ ਸਿੱਖਿਆ ਪ੍ਰਾਪਤ ਕਰਨ ਵਿੱਚ ਆਪਣੀ ਸ਼ਾਨ ਸਮਝਦੇ ਹਨ। ਸਾਨੂੰ ਇਸ ਸੰਬੰਧੀ ਗੰਭੀਰ ਵਿਚਾਰ ਕਰਨ ਦੀ ਲੋੜ ਹੈ। ਅਸੀਂ ਬਹਾਨੇ ਲਾ ਰਹੇ ਹਾਂ ਕਿ ਅੰਗਰੇਜ਼ੀ ਮਾਧਿਅਮ ਹੀ ਸਾਡੇ ਲਈ ਕਲਿਆਣਕਾਰੀ ਹੈ, ਪਰ ਜੇ ਬੋੜਾ ਗੰਭੀਰਤਾ ਨਾਲ ਵਿਚਾਰੀਏ ਤਾਂ ਸਾਨੂੰ ਆਪਣੀ ਗਲਤੀ ਦਾ ਛੇਤੀ ਹੀ ਪਤਾ ਲੱਗ ਜਾਂਦਾ ਹੈ।

**SubQuestion No : 95**

**Q.9** "ਸਿਖਰ" ਸ਼ਬਦ ਦੇ ਸਮਾਨਾਰਥਕ ਸ਼ਬਦ ਪਛਾਣੋ।  
**5**

- Ans**
- 1. ਘਾਟੀ/ਨਿਵਾਣ
  - 2. ਨੀਚਾ/ਹੇਠਾਂ
  - 3. ਉੱਚਾਈ/ਚੋਟੀ
  - 4. ਢਲਾਣ/ਤਿਰਛਾ

Question ID :	441009330293
Option 1 ID :	4410091287682
Option 2 ID :	4410091287684
Option 3 ID :	4410091287683
Option 4 ID :	4410091287685
Status :	Answered
Chosen Option :	3

Section : Digital Literacy and Awareness

**Q.9** Which of the following is classified as both an input and output device?  
**6**

- Ans**
- 1. Touchscreen
  - 2. Plotter
  - 3. Monitor
  - 4. Scanner

Question ID :	441009105900
Option 1 ID :	441009421663
Option 2 ID :	441009421664
Option 3 ID :	441009421662
Option 4 ID :	441009421661
Status :	Answered
Chosen Option :	4

Q.9 7	Which of the following shortcut keys is used to open the Print dialog box in MS Word?
Ans	<input type="checkbox"/> 1. Ctrl + Shift + P
	<input type="checkbox"/> 2. Ctrl + Alt + P
	<input type="checkbox"/> 3. Ctrl + O
	<input checked="" type="checkbox"/> 4. Ctrl + P

Question ID :	441009125286
Option 1 ID :	441009498007
Option 2 ID :	441009498008
Option 3 ID :	441009498009
Option 4 ID :	441009498006
Status :	Answered
Chosen Option :	4

Q.9 8	What is the most common way to enter text into an MS-PowerPoint slide?
Ans	<input type="checkbox"/> 1. Adjusting the slide layout
	<input type="checkbox"/> 2. Clicking the Print button
	<input checked="" type="checkbox"/> 3. Using the Text Box feature
	<input type="checkbox"/> 4. Running a slideshow

Question ID :	441009136164
Option 1 ID :	441009541094
Option 2 ID :	441009541096
Option 3 ID :	441009541097
Option 4 ID :	441009541095
Status :	Answered
Chosen Option :	3

Q.9 9	What distinguishes ROM from RAM in terms of functionality?
Ans	<input type="checkbox"/> 1. RAM stores permanent data, while ROM stores temporary data.
	<input type="checkbox"/> 2. ROM is writable, while RAM is read-only.
	<input type="checkbox"/> 3. RAM is slower than ROM.
	<input checked="" type="checkbox"/> 4. ROM is non-volatile, while RAM is volatile.

Question ID :	441009135387
Option 1 ID :	441009538122
Option 2 ID :	441009538121
Option 3 ID :	441009538120
Option 4 ID :	441009538123
Status :	Answered
Chosen Option :	2

Q.1 ਜਦੋਂ ਤੁਸੀਂ ਇੱਕ ਵੱਡੀ ਫਾਈਲ (ਜਿਵੇਂ ਕਿ 50 MB) ਨੂੰ ਇੱਕ ਈਮੇਲ ਨਾਲ ਅਟੈਚ ਕਰਦੇ ਹੋ ਅਤੇ ਇਸਨੂੰ ਭੇਜਣ ਦੀ ਕੋਸ਼ਿਸ਼ ਕਰਦੇ ਹੋ, ਤਾਂ ਕੀ ਹੁੰਦਾ ਹੈ?

- Ans
- 1. ਫਾਈਲ ਇੱਕ ਵੱਖਰੀ ਈਮੇਲ ਦੇ ਰੂਪ ਵਿੱਚ ਭੇਜੀ ਜਾਂਦੀ ਹੈ।
  - 2. ਈਮੇਲ ਆਪਣੇ ਆਪ ਇੱਕ ਜ਼ਿਪ ਫਾਈਲ ਵਿੱਚ ਬਦਲ ਜਾਂਦੀ ਹੈ ਅਤੇ ਭੇਜ ਦਿੱਤੀ ਜਾਂਦੀ ਹੈ।
  - 3. ਈਮੇਲ ਪ੍ਰਦਾਤਾ ਦੁਆਰਾ ਨਿਰਧਾਰਤ ਅਟੈਚਮੈਂਟ ਆਕਾਰ ਸੀਮਾਵਾਂ ਦੇ ਕਾਰਨ ਈਮੇਲ ਨਹੀਂ ਭੇਜੀ ਜਾ ਸਕਦੀ।
  - 4. ਈਮੇਲ ਹਮੇਸ਼ਾ ਬਿਨਾਂ ਕਿਸੇ ਰੁਕਾਵਟ ਦੇ ਭੇਜੀ ਜਾਂਦੀ ਹੈ।

Question ID : 441009136859

Option 1 ID : 441009543684

Option 2 ID : 441009543683

Option 3 ID : 441009543682

Option 4 ID : 441009543681

Status : Answered

Chosen Option : 1

Section : Qualifying Paper of Punjabi Language

Q.1 ਹੇਠ ਲਿਖੇ ਸ਼ਬਦਾਂ ਵਿੱਚੋਂ ਇਸਤਰੀ-ਲਿੰਗ ਸ਼ਬਦ ਚੁਣੋ:

- Ans
- 1. ਸੇਵਕ
  - 2. ਸ਼ਾਹ
  - 3. ਫ਼ਕੀਰ
  - 4. ਨਾਇਕਾ

Question ID : 441009262141

Option 1 ID : 4410091021326

Option 2 ID : 4410091021329

Option 3 ID : 4410091021328

Option 4 ID : 4410091021327

Status : Answered

Chosen Option : 4

Q.2 'ਸ਼ੈ' ਦਾ ਬਹੁਵਚਨ ਹੈ:

- Ans
- 1. ਸ਼ੈਆਵਾਂ
  - 2. ਸ਼ੈ
  - 3. ਸ਼ੈਆਂ
  - 4. ਸ਼ੈਅ

Question ID : 441009262087

Option 1 ID : 4410091021118

Option 2 ID : 4410091021117

Option 3 ID : 4410091021119

Option 4 ID : 4410091021116

Status : Answered

Chosen Option : 3

Q.3 ਅਤਿ ਜਜ਼ਬਾਤੀ ਹਾਲਾਤ ਵਿੱਚ ਪੂਰੇ ਵਾਕ ਨਹੀਂ ਬੋਲੇ ਜਾਂਦੇ ਸਗੋਂ ਅਪੂਰੇ ਜਾਂ ਟੁੱਟੇ ਸ਼ਬਦ ਹੀ ਬੋਲੇ ਜਾਂਦੇ ਹਨ। ਲਿਖਤ ਵਿੱਚ ਇਹਨਾਂ ਬਿਖਰੇ ਸ਼ਬਦਾਂ ਦੇ ਵਿਚਕਾਰ ਕਿਸ ਵਿਸ਼ਰਾਮ ਚਿੰਨ ਦੀ ਵਰਤੋਂ ਹੁੰਦੀ ਹੈ:-

- Ans
- 1. ਜੋੜਨੀ
  - 2. ਛੁੱਟ ਮਰੋੜੀ
  - 3. ਦੁਬਿੰਦੀ
  - 4. ਡੋਸ਼

Question ID :	441009258746
Option 1 ID :	4410091008793
Option 2 ID :	4410091008796
Option 3 ID :	4410091008795
Option 4 ID :	4410091008794
Status :	Answered
Chosen Option :	1

Q.4 ਹੇਠ ਲਿਖਿਆਂ ਵਿੱਚੋਂ ਪੰਜਾਬੀ ਭਾਸ਼ਾ ਵਿਚ ਵਰਤਿਆ ਜਾਣ ਵਾਲਾ ਤਦਭਵ ਸ਼ਬਦ ਹੈ-

- Ans
- 1. ਗੱਡਾ
  - 2. ਤੌਲੀਆ
  - 3. ਖੂਹ
  - 4. ਪੱਖੀ

Question ID :	441009269849
Option 1 ID :	4410091048464
Option 2 ID :	4410091048463
Option 3 ID :	4410091048465
Option 4 ID :	4410091048462
Status :	Answered
Chosen Option :	1

Q.5 ਉਸ ਦਾ ਘਰ ਬਾਗ ਕੋਲ ਪੈਂਦੇ ਸਕੂਲ ਦੇ ਨੇੜੇ ਹੈ। ਉਪਰੋਕਤ ਵਾਕ ਦਾ ਵਚਨ ਬਦਲਣ 'ਤੇ ਕਿਹੜਾ ਵਾਕ ਬਣੇਗਾ?

- Ans
- 1. ਉਹਨਾਂ ਦੇ ਘਰ ਬਾਗਾਂ ਕੋਲ ਪੈਂਦੇ ਸਕੂਲਾਂ ਦੇ ਨੇੜੇ ਹਨ।
  - 2. ਉਸ ਦਾ ਘਰ ਬਾਗ ਕੋਲ ਪੈਂਦੇ ਸਕੂਲਾਂ ਦੇ ਨੇੜੇ ਹੈ।
  - 3. ਉਹਨਾਂ ਦੇ ਘਰ ਬਾਗਾਂ ਕੋਲ ਪੈਂਦੇ ਸਕੂਲ ਦੇ ਨੇੜੇ ਹਨ।
  - 4. ਉਹਨਾਂ ਦਾ ਘਰ ਬਾਗਾਂ ਕੋਲ ਪੈਂਦੇ ਸਕੂਲਾਂ ਦੇ ਨੇੜੇ ਹੈ।

Question ID :	441009261090
Option 1 ID :	4410091017732
Option 2 ID :	4410091017731
Option 3 ID :	4410091017734
Option 4 ID :	4410091017733
Status :	Answered
Chosen Option :	3

Q.6 ਪੁੱਠੇ ਕਾਮੇ ਸ਼ੁਰੂ ਕਰਨ ਤੋਂ ਪਹਿਲਾਂ ਕਿਹੜਾ ਵਿਸਰਾਮ - ਚਿੰਨ੍ਹ ਵਰਤਿਆ ਜਾਂਦਾ ਹੈ ?

- Ans
- 1. ਕਾਮਾ
  - 2. ਬਿੰਦੀ ਵਾਲਾ ਕਾਮਾ
  - 3. ਦੁਬਿੰਦੀ
  - 4. ਵਿਸਮਿਕ ਚਿੰਨ੍ਹ

Question ID : 441009264935

Option 1 ID : 4410091029782

Option 2 ID : 4410091029780

Option 3 ID : 4410091029781

Option 4 ID : 4410091029783

Status : Answered

Chosen Option : 4

Q.7 ਕੁਝ ਪੁਲਿੰਗ ਸ਼ਬਦਾਂ ਦੇ ਇੱਕ ਤੋਂ ਵੱਧ ਇਸਤਰੀ ਲਿੰਗ ਹੋ ਸਕਦੇ ਹਨ?

- Ans
- 1. ਨਹੀਂ
  - 2. ਬਿਲਕੁਲ ਨਹੀਂ
  - 3. ਸ਼ਾਇਦ
  - 4. ਹਾਂ

Question ID : 441009287877

Option 1 ID : 4410091118411

Option 2 ID : 4410091118414

Option 3 ID : 4410091118413

Option 4 ID : 4410091118412

Status : Answered

Chosen Option : 4

Q.8 ਹੇਠ ਲਿਖੇ ਕਿਸ ਵਾਕ ਵਿੱਚ ਵਿਸਰਾਮ-ਚਿੰਨ੍ਹ ਦੀ ਸਹੀ ਵਰਤੋਂ ਹੋਈ ਹੈ?

- Ans
- 1. ਬਈ ਵਾਹ।ਕਮਾਲ ਕਰ ਦਿੱਤਾ ਏ। ਬਹਾਦਰ ਕੁੜੀ ਨੇ?
  - 2. ਬਈ ਵਾਹ! ਕਮਾਲ ਕਰ ਦਿੱਤਾ ਏ, ਬਹਾਦਰ ਕੁੜੀ ਨੇ!
  - 3. ਬਈ ਵਾਹ? ਕਮਾਲ ਕਰ ਦਿੱਤਾ ਏ, ਬਹਾਦਰ ਕੁੜੀ ਨੇ!
  - 4. ਬਈ ਵਾਹ? ਕਮਾਲ ਕਰ ਦਿੱਤਾ ਏ, ਬਹਾਦਰ ਕੁੜੀ ਨੇ?

Question ID : 441009271560

Option 1 ID : 4410091055065

Option 2 ID : 4410091055062

Option 3 ID : 4410091055063

Option 4 ID : 4410091055064

Status : Answered

Chosen Option : 2

Q.9	ਮੁਹਾਵਰੇ ਵਿਚਲੀ ਖ਼ਾਲੀ ਥਾਂ ਭਰੋ: _____ ਜਾਲਣੇ
Ans	<input checked="" type="checkbox"/> 1. ਘਰ
	<input checked="" type="checkbox"/> 2. ਜਫ਼ਰ
	<input checked="" type="checkbox"/> 3. ਕੱਪੜੇ
	<input checked="" type="checkbox"/> 4. ਕਾਰਜ

Question ID :	4410092626
Option 1 ID :	4410091023258
Option 2 ID :	4410091023257
Option 3 ID :	4410091023255
Option 4 ID :	4410091023256
Status :	Answered
Chosen Option :	4

Q.10	ਅੱਗੇ ਸੱਪ ਪਿੱਛੇ ਸ਼ੀਹ ਅਖਾਣ ਕਿਸ ਅਰਥਾਂ ਵਿੱਚ ਵਰਤਿਆ ਜਾਂਦਾ ਹੈ:-
Ans	<input checked="" type="checkbox"/> 1. ਨਿਕੰਮਾ ਬੰਦਾ ਕਿਸੇ ਕੰਮ ਦਾ ਨਹੀਂ ਹੁੰਦਾ
	<input checked="" type="checkbox"/> 2. ਜਦੋਂ ਕਿਸੇ ਦਾ ਅਹੁਦਾ ਵੇਖ ਕੇ ਉਸਨੂੰ ਆਦਰ ਸਤਿਕਾਰ ਮਿਲਦਾ ਹੋਵੇ
	<input checked="" type="checkbox"/> 3. ਜਦੋਂ ਕੋਈ ਵਿਅਕਤੀ ਆਪਣੀਆਂ ਮੁਸ਼ਕਿਲਾਂ ਜਾਂ ਡਰ ਕਾਰਨ ਨਾ ਅੱਗੇ ਜੋਗਾ ਰਹੇ ਨਾ ਪਿੱਛੇ ਜੋਗਾ ਰਹੇ
	<input checked="" type="checkbox"/> 4. ਇਹ ਸੰਸਾਰ ਕਿਸੇ ਦਾ ਲਿਹਾਜ਼ ਨਹੀਂ ਕਰਦਾ

Question ID :	441009256013
Option 1 ID :	441009997921
Option 2 ID :	441009997919
Option 3 ID :	441009997920
Option 4 ID :	441009997922
Status :	Answered
Chosen Option :	3

Q.11	'ਝੂਟਾ ਆਉਣਾ' ਮੁਹਾਵਰੇ ਦਾ ਅਰਥ ਕੀ ਹੈ?
Ans	<input checked="" type="checkbox"/> 1. ਗੁਜ਼ਾਰਾ ਕਰਨਾ
	<input checked="" type="checkbox"/> 2. ਬਦਨਾਮੀ ਕਰਨੀ
	<input checked="" type="checkbox"/> 3. ਅਨੰਦ ਆਉਣਾ
	<input checked="" type="checkbox"/> 4. ਪੀਘ ਝੂਟਣੀ

Question ID :	441009162207
Option 1 ID :	441009642481
Option 2 ID :	441009642484
Option 3 ID :	441009642483
Option 4 ID :	441009642482
Status :	Answered
Chosen Option :	3

Q.1 ਹੇਠਾਂ ਦਿੱਤਿਆਂ ਸ਼ਬਦਾਂ ਵਿੱਚੋਂ ਸਹੀ ਸਮਾਨ ਆਰਥਕ ਸ਼ਬਦ ਨਹੀਂ ਹੈ।  
2

- Ans
- 1. ਸੰਗਮ
  - 2. ਸੱਭਿਅਤਾ
  - 3. ਤਹਿਜ਼ੀਬ
  - 4. ਸ਼ਿਸ਼ਟਾਚਾਰ

Question ID :	441009256118
Option 1 ID :	441009998335
Option 2 ID :	441009998332
Option 3 ID :	441009998333
Option 4 ID :	441009998334
Status :	Answered
Chosen Option :	1

Q.1 ਸੁੱਧ ਸ਼ਬਦ ਜੋੜ ਵਾਲਾ ਵਾਕ ਚੁਣੋ:-  
3

- Ans
- 1. ਬਾਹਰ ਮੰਗਿ ਪੈ ਰਿਹਾ ਹੈ।
  - 2. ਬਾਅਰ ਮੰਗਿ ਪੈ ਰਿਹਾ ਹੈ।
  - 3. ਬਾਹਰ ਮੰਅਿ ਪੈ ਰਿਹਾ ਹੈ।
  - 4. ਬਾਹਰ ਮੀਹਅ ਪੈ ਰਿਹਾ ਹੈ।

Question ID :	441009259114
Option 1 ID :	4410091010153
Option 2 ID :	4410091010151
Option 3 ID :	4410091010152
Option 4 ID :	4410091010154
Status :	Answered
Chosen Option :	1

Q.1 ਪੰਜਾਬੀ ਭਾਸ਼ਾ ਅਨੁਸਾਰ ਗਲਤ ਸ਼ਬਦ ਦੀ ਪਹਿਚਾਣ ਕਰੋ:  
4

- Ans
- 1. ਟ੍ਰੈਕਟਰ
  - 2. ਅਮਰਿਤ
  - 3. ਸੋਝੀ
  - 4. ਫ਼ਸਲ

Question ID :	441009261661
Option 1 ID :	4410091019460
Option 2 ID :	4410091019458
Option 3 ID :	4410091019457
Option 4 ID :	4410091019459
Status :	Answered
Chosen Option :	1

Q.1 5	ਹੇਠ ਲਿਖੇ ਵਾਕ ਦਾ ਲਿੰਗ ਬਦਲੋ: ਉਹ ਲਿਖ ਰਹੀਆਂ ਹਨ।
Ans	<input checked="" type="checkbox"/> 1. ਉਹ ਲਿਖਦੀਆਂ ਰਹਿੰਦੀਆਂ ਹਨ <input checked="" type="checkbox"/> 2. ਉਹ ਲਿਖ ਰਹੇ ਹਨ। <input checked="" type="checkbox"/> 3. ਉਹ ਲਿਖ ਰਹੇ ਹਨ। <input checked="" type="checkbox"/> 4. ਉਹ ਲਿਖਦੇ ਹਨ

Question ID :	441009280884
Option 1 ID :	4410091091463
Option 2 ID :	4410091091464
Option 3 ID :	4410091091465
Option 4 ID :	4410091091466
Status :	Answered
Chosen Option :	3

Q.1 6	ਹੇਠਾਂ ਦਿੱਤੇ ਪੰਜਾਬੀ ਵਾਕ ਦਾ ਸਭ ਤੋਂ ਢੁਕਵਾਂ ਅੰਗਰੇਜ਼ੀ ਅਨੁਵਾਦ ਚੁਣੋ: "ਕਿਰਪਾ ਕਰਕੇ ਦਰਵਾਜ਼ਾ ਬੰਦ ਕਰ ਦਿਓ ਅਤੇ ਲਾਈਟਾਂ ਬੁਝਾ ਦਿਓ।"
Ans	<input checked="" type="checkbox"/> 1. Please close the entrance and extinguish the bulbs. <input checked="" type="checkbox"/> 2. Please close the door and turn off the lights. <input checked="" type="checkbox"/> 3. Kindly shut the gate and switch off the lamps. <input checked="" type="checkbox"/> 4. Would you mind closing the door and putting out the lights?

Question ID :	441009464092
Option 1 ID :	4410091814950
Option 2 ID :	4410091814948
Option 3 ID :	4410091814949
Option 4 ID :	4410091814951
Status :	Answered
Chosen Option :	2

Q.1 7	'ਉੱਚਰ ਜੀਵੇ, ਜਿੱਚਰ ਮਟਕਾਵੇ' ਅਖਾਣ ਦਾ ਭਾਵ ਦੱਸੋ।
Ans	<input checked="" type="checkbox"/> 1. ਹੰਕਾਰ ਕਰਨ ਤੋਂ ਵਰਜਣ ਲਈ। <input checked="" type="checkbox"/> 2. ਜੇ ਕਿਸੇ ਨੇ ਡਾਂਗ ਮਾਰਨ ਲਈ ਉਲਾਰੇ। <input checked="" type="checkbox"/> 3. ਜਦੋਂ ਕਿਸੇ ਬੰਦੇ ਦੀ ਅਣਹੋਂਦ ਦਾ ਕਾਰਨ ਬਣੇ। <input checked="" type="checkbox"/> 4. ਜੀਉਣਾ ਸ਼ਾਨ ਨਾਲ ਚੰਗਾ ਹੁੰਦਾ ਹੈ।

Question ID :	441009232100
Option 1 ID :	441009906847
Option 2 ID :	441009906846
Option 3 ID :	441009906845
Option 4 ID :	441009906844
Status :	Answered
Chosen Option :	4

Q.1 8	ਅੰਗਰੇਜ਼ੀ ਵਿੱਚ ਦਿੱਤੇ ਸ਼ਬਦ ਦਾ ਪੰਜਾਬੀ ਵਿੱਚ ਅਨੁਵਾਦ ਕਰੋ। Insult
Ans	<input checked="" type="checkbox"/> 1. ਗਿਰਫ਼ਤਾਰ
	<input checked="" type="checkbox"/> 2. ਤਮਾਸ਼ਾ
	<input checked="" type="checkbox"/> 3. ਹੱਤਕ
	<input checked="" type="checkbox"/> 4. ਰੌਲਾ

Question ID :	441009328189
Option 1 ID :	4410091279222
Option 2 ID :	4410091279220
Option 3 ID :	4410091279221
Option 4 ID :	4410091279219
Status :	Answered
Chosen Option :	2

Q.1 9	_____ ਅਲਪ ਵਿਸ਼ਰਾਮ ਚਿੰਨ੍ਹ ਕਿਹਾ ਜਾਂਦਾ ਹੈ।
Ans	<input checked="" type="checkbox"/> 1. ਕਾਮਾ
	<input checked="" type="checkbox"/> 2. ਬਿੰਦੀ ਕਾਮਾ
	<input checked="" type="checkbox"/> 3. ਦੁਬਿੰਦੀ ਡੈਸ਼
	<input checked="" type="checkbox"/> 4. ਡੈਸ਼

Question ID :	441009269586
Option 1 ID :	4410091047405
Option 2 ID :	4410091047406
Option 3 ID :	4410091047407
Option 4 ID :	4410091047408
Status :	Answered
Chosen Option :	3

Q.2 0	ਹੇਠ ਲਿਖਿਆਂ ਵਿੱਚੋਂ ਕਿਹੜਾ ਮਲੰਗ ਦਾ ਸਮਾਨਾਰਥੀ ਸ਼ਬਦ ਹੈ?
Ans	<input checked="" type="checkbox"/> 1. ਕਾਰਜ
	<input checked="" type="checkbox"/> 2. ਸੁੱਧ
	<input checked="" type="checkbox"/> 3. ਸੁੱਭ
	<input checked="" type="checkbox"/> 4. ਝੱਲਾ

Question ID :	441009161356
Option 1 ID :	441009639080
Option 2 ID :	441009639078
Option 3 ID :	441009639079
Option 4 ID :	441009639077
Status :	Answered
Chosen Option :	4

Q.2 ਅੰਗਰੇਜ਼ੀ ਵਿੱਚ ਦਿੱਤੇ ਗਏ ਵਾਕ ਦਾ ਪੰਜਾਬੀ ਵਿੱਚ ਅਨੁਵਾਦ ਕਰੋ।  
1 He helped his father in old age.

- Ans
- 1. ਉਸਨੇ ਬੁਢਾਪੇ ਵਿੱਚ ਆਪਣੇ ਪਿਤਾ ਦੀ ਮਦਦ ਕੀਤੀ।
  - 2. ਉਸਨੇ ਬੁਢਾਪੇ ਆਪਣੇ ਪਿਤਾ ਵਿੱਚ ਦੀ ਮਦਦ ਕੀਤੀ।
  - 3. ਉਸਨੇ ਬੁਢਾਪੇ ਉਮਰ ਵਿੱਚ ਆਪਣੇ ਪਿਤਾ ਦੀ ਮਦਦ ਕੀਤੀ।
  - 4. ਆਪਣੇ ਪਿਤਾ ਉਸਨੇ ਬੁਢਾਪੇ ਵਿੱਚ ਦੀ ਮਦਦ ਕੀਤੀ।

Question ID :	441009327804
Option 1 ID :	4410091277676
Option 2 ID :	4410091277675
Option 3 ID :	4410091277674
Option 4 ID :	4410091277677
Status :	Answered
Chosen Option :	3

Q.2 ਸੌ ਸੁਨਿਆਰ ਦੀ, ਇਕ ਲੁਹਾਰ ਦੀ' ਅਖਾਣ ਦਾ ਭਾਵ ਹੈ:  
2

- Ans
- 1. ਸੌ ਵਾਰਾਂ ਨਾਲੋਂ ਇੱਕ ਸਖ਼ਤ ਵਾਰ ਜ਼ਿਆਦਾ ਅਸਰਦਾਰ ਹੁੰਦਾ ਹੈ
  - 2. ਸੁਨਿਆਰ ਲੁਹਾਰ ਨਾਲੋਂ ਸੌ ਗੁਣਾ ਤਾਕਤਵਰ ਹੁੰਦਾ ਹੈ
  - 3. ਲੁਹਾਰ ਦੇ ਕੰਮ ਦਾ ਮੁੱਲ ਘੱਟ ਹੁੰਦਾ ਹੈ
  - 4. ਸੁਨਿਆਰ ਦਾ ਸਮਾਨ ਲੁਹਾਰ ਤੋਂ ਮਹਿੰਗਾ ਵਿਕਦਾ ਹੈ

Question ID :	441009112560
Option 1 ID :	441009447869
Option 2 ID :	441009447870
Option 3 ID :	441009447868
Option 4 ID :	441009447867
Status :	Answered
Chosen Option :	1

Q.2 ਪੰਜਾਬੀ ਸ਼ਬਦ ਸ਼੍ਰੇਣੀਆਂ ਨੂੰ ਕਿੰਨੇ ਭਾਗਾਂ ਵਿੱਚ ਵੰਡਿਆ ਜਾਂਦਾ ਹੈ?  
3

- Ans
- 1. ਨੌਂ
  - 2. ਚਾਰ
  - 3. ਛੇ
  - 4. ਅੱਠ

Question ID :	441009267568
Option 1 ID :	4410091039518
Option 2 ID :	4410091039519
Option 3 ID :	4410091039516
Option 4 ID :	4410091039517
Status :	Answered
Chosen Option :	3

Q.2 ਕੰਨਾਂ ਤੀਕ ਮੂੰਹ ਪਾਟਣਾ ਮੁਹਾਵਰੇ ਦਾ ਅਰਥ ਹੈ।  
4

Ans ✓ 1. ਮੂੰਹ-ਫੱਟ ਹੋਣਾ

✗ 2. ਹਾਰ ਜਾਣਾ

✗ 3. ਬਰਬਾਦ ਹੋ ਜਾਣਾ

✗ 4. ਹਰਾ ਦੇਣਾ

Question ID : 441009262666

Option 1 ID : 4410091023376

Option 2 ID : 4410091023374

Option 3 ID : 4410091023375

Option 4 ID : 4410091023373

Status : Answered

Chosen Option : 3

Q.2 ਹੇਠ ਲਿਖੇ ਸ਼ਬਦਾਂ ਵਿੱਚੋਂ ਕਿਹੜਾ 'ਆਥਣ' ਦਾ ਸਮਾਨਾਰਥਕ ਸ਼ਬਦ ਹੈ?  
5

Ans ✓ 1. ਤਕਾਲਾਂ

✗ 2. ਦਿਨ

✗ 3. ਰਾਤ

✗ 4. ਸਵੇਰ

Question ID : 441009267308

Option 1 ID : 4410091038483

Option 2 ID : 4410091038486

Option 3 ID : 4410091038485

Option 4 ID : 4410091038484

Status : Answered

Chosen Option : 1

Q.2 ਦੁਰਜਨ ਦਾ ਵਿਰੋਧੀ ਸ਼ਬਦ ਚੁਣੋ:-  
6

Ans ✗ 1. ਡੂਬ

✗ 2. ਤਾਰੂ

✓ 3. ਸੱਜਣ

✗ 4. ਯਰਕਣਾ

Question ID : 441009255948

Option 1 ID : 441009997664

Option 2 ID : 441009997663

Option 3 ID : 441009997662

Option 4 ID : 441009997665

Status : Answered

Chosen Option : 3

Q.2 'ਤਾਕਤ' ਦਾ ਸਮਾਨਾਰਥਕ ਸ਼ਬਦ ਹੈ:-  
7

- Ans
- 1. ਕਮਜ਼ੋਰ
  - 2. ਅਨੰਦ
  - 3. ਮੋਟਾ
  - 4. ਬਲ

Question ID : 441009251673

Option 1 ID : 441009980620

Option 2 ID : 441009980622

Option 3 ID : 441009980623

Option 4 ID : 441009980621

Status : Answered

Chosen Option : 4

Q.2 ਜੇਕਰ ਪੁਲਿੰਗ ਨਾਂਵ ਦੇ ਅੰਤ ਵਿੱਚ 'ਬਿਹਾਰੀ' ਹੋਵੇ, ਤਾਂ ਉਨ੍ਹਾਂ ਨੂੰ ਹਟਾ ਕੇ ਕੀ ਲਾਉਣ ਤੇ ਇਸਤਰੀ ਲਿੰਗ ਬਣਿਆ ਜਾ ਸਕਦਾ ਹੈ ?  
8

- Ans
- 1. ਅੱਗੇ 'ਨ' ਲਗਾਉਣ ਨਾਲ
  - 2. ਮੁਕਤਾ ਰੱਖ ਕੇ
  - 3. 'ਨ' ਜਾਂ 'ਣ' ਲਗਾ ਕੇ
  - 4. ਬਿਹਾਰੀ ਤੇ 'ਣ' ਦੀ

Question ID : 441009261636

Option 1 ID : 4410091019359

Option 2 ID : 4410091019357

Option 3 ID : 4410091019360

Option 4 ID : 4410091019358

Status : Answered

Chosen Option : 3

Q.2 ਢਕੀ ਰਿੱਝਣਾ ਮੁਹਾਵਰੇ ਦਾ ਅਰਥ ਹੈ।  
9

- Ans
- 1. ਭਟਕਦੇ ਫਿਰਨਾ
  - 2. ਸਲੂਣੇ ਨੂੰ ਢੱਕ ਕੇ ਪਕਾਉਣਾ
  - 3. ਬੁਰੀ ਗੱਲ ਦਾ ਭੇਤ ਪ੍ਰਗਟ ਨਾ ਹੋਣਾ
  - 4. ਅੰਦਰੋਂ ਅੰਦਰੀ ਦੁਖੀ ਹੋਣਾ

Question ID : 441009262649

Option 1 ID : 4410091023329

Option 2 ID : 4410091023326

Option 3 ID : 4410091023328

Option 4 ID : 4410091023327

Status : Answered

Chosen Option : 3

Q.3 0	ਹੇਠ ਲਿਖਿਆਂ ਵਿੱਚੋਂ ਵਸਤੂਵਾਚਕ ਨਾਂਵ ਦੀ ਉਦਾਹਰਨ ਹੈ-
Ans	<input checked="" type="checkbox"/> 1. ਕੰਪਨੀ <input checked="" type="checkbox"/> 2. ਮੇਜ਼ <input checked="" type="checkbox"/> 3. ਪਾਣੀ <input checked="" type="checkbox"/> 4. ਝੂਠ

Question ID :	441009256507
Option 1 ID :	441009999918
Option 2 ID :	441009999915
Option 3 ID :	441009999916
Option 4 ID :	441009999917
Status :	Answered
Chosen Option :	2

Q.3 1	ਹੇਠਾਂ ਦਿੱਤੇ ਵਿਕਲਪਾਂ ਵਿੱਚੋਂ ਕਿਹੜਾ ਵਿਕਲਪ ਸਹੀ ਹੈ?
Ans	<input checked="" type="checkbox"/> 1. ਕਿਰਦੰਤ - ਵਿਸਮਿਕ ਚਿੰਨ੍ਹ <input checked="" type="checkbox"/> 2. ਵਿਸਰਾਮ ਚਿੰਨ੍ਹ - ਕਿਰਦੰਤ <input checked="" type="checkbox"/> 3. ਵਿਸਰਾਮ ਲਿਪਾਂਕ - ਲਗਾਖਰ <input checked="" type="checkbox"/> 4. ਵਿਸਰਾਮ ਚਿੰਨ੍ਹ - ਵਿਸਰਾਮ ਲਿਪਾਂਕ

Question ID :	441009139100
Option 1 ID :	441009552698
Option 2 ID :	441009552697
Option 3 ID :	441009552696
Option 4 ID :	441009552695
Status :	Answered
Chosen Option :	3

Q.3 2	'ਦਲੇਰ' ਸ਼ਬਦ ਦਾ ਵਿਰੋਧੀ ਸ਼ਬਦ ਹੈ-
Ans	<input checked="" type="checkbox"/> 1. ਜੰਗਜੂ <input checked="" type="checkbox"/> 2. ਡਰਪੋਕ <input checked="" type="checkbox"/> 3. ਬਹਾਦਰ <input checked="" type="checkbox"/> 4. ਸੂਰਮਾ

Question ID :	441009256041
Option 1 ID :	441009998033
Option 2 ID :	441009998030
Option 3 ID :	441009998031
Option 4 ID :	441009998032
Status :	Answered
Chosen Option :	2

Q.3 ਰਾਗ ਸ਼ਬਦ ਦਾ ਇਸਤਰੀ ਲਿੰਗ ਸ਼ਬਦ ਚੁਣੋ :-  
3

- Ans  1. ਰਾਗਣੀ  
 2. ਰਾਗਣ  
 3. ਰਾਗੀ  
 4. ਰਾਗਰਨੀ

Question ID : 441009210888

Option 1 ID : 441009828196

Option 2 ID : 441009828199

Option 3 ID : 441009828197

Option 4 ID : 441009828198

Status : Answered

Chosen Option : 2

Q.3 ਅੰਗਰੇਜ਼ੀ ਵਿੱਚ ਦਿੱਤੇ ਗਏ ਵਾਕ ਦਾ ਪੰਜਾਬੀ ਵਿੱਚ ਅਨੁਵਾਦ ਕਰੋ।  
4

All fears are imaginary.

- Ans  1. ਡਰ ਕਾਲਪਨਿਕ ਸਾਰੇ ਹਨ।  
 2. ਸਾਰੇ ਕਾਲਪਨਿਕ ਡਰ ਹਨ।  
 3. ਸਾਰੇ ਹਨ ਕਾਲਪਨਿਕ ਡਰ।  
 4. ਸਾਰੇ ਡਰ ਕਾਲਪਨਿਕ ਹਨ।

Question ID : 441009327763

Option 1 ID : 4410091277516

Option 2 ID : 4410091277514

Option 3 ID : 4410091277517

Option 4 ID : 4410091277515

Status : Answered

Chosen Option : 4

Q.3 'ਤਾਕਤ' ਦਾ ਸਮਾਨਾਰਥਕ ਸ਼ਬਦ ਹੈ:-  
5

- Ans  1. ਮੋਟਾ  
 2. ਕਮਜ਼ੋਰ  
 3. ਬਲ  
 4. ਅਨੰਦ

Question ID : 441009251583

Option 1 ID : 441009980245

Option 2 ID : 441009980242

Option 3 ID : 441009980243

Option 4 ID : 441009980244

Status : Answered

Chosen Option : 3

Q.3	ਲੁਟੇਰਾ ਸ਼ਬਦ ਦਾ ਲਿੰਗ ਬਦਲੋ।
6	
Ans	<input checked="" type="checkbox"/> 1. ਲੁਟੇਰੀਨ
	<input checked="" type="checkbox"/> 2. ਲੁਟੇਰਨ
	<input checked="" type="checkbox"/> 3. ਲੁਟੇਰਿਨ
	<input checked="" type="checkbox"/> 4. ਲੁਟੇਰੀ

Question ID :	441009269561
Option 1 ID :	4410091047307
Option 2 ID :	4410091047308
Option 3 ID :	4410091047309
Option 4 ID :	4410091047306
Status :	Answered
Chosen Option :	2

Q.3	ਸਹੀ 'ਛੁੱਟ ਮਰੋੜੀ' ਵਿਸ਼ਰਾਮ ਚਿੰਨ੍ਹ ਵਾਲਾ ਵਾਕ ਦੱਸੋ
7	
Ans	<input checked="" type="checkbox"/> 1. ਚਿੜੀ ਕੋਠੇ ਤੇ ਬੈਠੀ ਹੈ।
	<input checked="" type="checkbox"/> 2. ਚਿੜੀ ਕੋਠੇ ਤੇ, ਬੈਠੀ ਹੈ।
	<input checked="" type="checkbox"/> 3. ਚਿੜੀ ਕੋਠੇ 'ਤੇ ਬੈਠੀ ਹੈ।
	<input checked="" type="checkbox"/> 4. ਚਿੜੀ ਕੋਠੇ ਤੇ ਬੈਠੀ ਹੈ।

Question ID :	441009286681
Option 1 ID :	4410091113697
Option 2 ID :	4410091113699
Option 3 ID :	4410091113696
Option 4 ID :	4410091113698
Status :	Answered
Chosen Option :	2

Q.3	ਹਫਤੇ ਦਾ ਤੀਸਰਾ ਦਿਨ ਕਿਹੜਾ ਹੈ :-
8	
Ans	<input checked="" type="checkbox"/> 1. ਸ਼ੁਕਰਵਾਰ
	<input checked="" type="checkbox"/> 2. ਵੀਰਵਾਰ
	<input checked="" type="checkbox"/> 3. ਮੰਗਲਵਾਰ
	<input checked="" type="checkbox"/> 4. ਬੁੱਧਵਾਰ

Question ID :	441009260019
Option 1 ID :	4410091013626
Option 2 ID :	4410091013625
Option 3 ID :	4410091013624
Option 4 ID :	4410091013623
Status :	Answered
Chosen Option :	3

Q.3 ਹੇਠ ਲਿਖਿਆਂ ਵਿੱਚੋਂ ਕਿਹੜਾ ਸਹੀ ਵਿਰੋਧੀ ਜੁੱਟ ਹੈ, ਚੁਣੋ?  
9

Ans  1. ਰੰਗ-ਗੁਲਾਲ  
 2. ਹਾਲ-ਕਮਾਲ  
 3. ਨੇਕੀ-ਬਦੀ  
 4. ਸਹਿਜ-ਚਲਾਕ

Question ID :	441009161161
Option 1 ID :	441009638315
Option 2 ID :	441009638314
Option 3 ID :	441009638313
Option 4 ID :	441009638316
Status :	Answered
Chosen Option :	4

Q.4 ਹੇਠ ਲਿਖੇ ਵਿਕਲਪਾਂ ਵਿੱਚੋਂ ਹਫਤੇ ਦੇ ਪੰਜਵੇਂ ਦਿਨ ਦਾ ਸ਼ੁੱਧ ਪੰਜਾਬੀ ਰੂਪ ਚੁਣੋ :-  
0

Ans  1. ਸ਼ੱਕਰਵਾਰ  
 2. ਸ਼ੁਕਰਵਾਰ  
 3. ਸੱਕਰਵਾਰ  
 4. ਸ਼ੁਕਰਵਾਰ

Question ID :	441009212802
Option 1 ID :	441009835414
Option 2 ID :	441009835413
Option 3 ID :	441009835412
Option 4 ID :	441009835411
Status :	Answered
Chosen Option :	4

Q.4 ਹੇਠ ਦਿੱਤੇ ਸਵਾਲ ਵਿੱਚ, ਦਿੱਤੇ ਗਏ ਚਾਰ ਵਿਕਲਪਾਂ ਵਿੱਚੋਂ, ਉਹ ਵਿਕਲਪ ਚੁਣੋ ਜੋ ਮੁਹਾਵਰੇ ਦੇ ਅਰਥ ਨੂੰ ਸਭ ਤੋਂ ਵਧੀਆ ਢੰਗ ਨਾਲ ਪ੍ਰਗਟ ਕਰਦਾ ਹੈ।  
1

ਹਿਰਦਾ ਵੱਡਾ ਹੋਣਾ

Ans  1. ਮੋਟਾਪਾ ਹੋਣਾ  
 2. ਹਿਰਦਾ ਦਰਦ ਕਰਨਾ  
 3. ਦਿਲ ਚੋਟ ਖਾਣਾ  
 4. ਹਿੰਮਤ ਵਾਲਾ ਹੋਣਾ

Question ID :	441009304333
Option 1 ID :	4410091184042
Option 2 ID :	4410091184044
Option 3 ID :	4410091184043
Option 4 ID :	4410091184045
Status :	Answered
Chosen Option :	4

Q.4 'मटकीला' विच पिढेतर है:-  
2

- Ans
- 1. टकीला
  - 2. कीला
  - 3. किला
  - 4. ला

Question ID : 441009267996

Option 1 ID : 4410091041212

Option 2 ID : 4410091041210

Option 3 ID : 4410091041211

Option 4 ID : 4410091041209

Status : Answered

Chosen Option : 2

Q.4 ਉਹ ਸ਼ਬਦ ਜਿਸ ਤੋਂ ਕਿਸੇ ਕੰਮ ਦਾ ਹੋਣਾ ਜਾਂ ਕਰਨਾ ਪ੍ਰਗਟ ਹੋਵੇ:-  
3

- Ans
- 1. ਵਿਸ਼ੇਸ਼ਣ
  - 2. ਪੜਨਾਵ
  - 3. ਕਿਰਿਆ ਵਿਸ਼ੇਸ਼ਣ
  - 4. ਕਿਰਿਆ

Question ID : 441009267561

Option 1 ID : 4410091039489

Option 2 ID : 4410091039488

Option 3 ID : 4410091039490

Option 4 ID : 4410091039491

Status : Answered

Chosen Option : 4

Q.4 ਅੰਗਰੇਜ਼ੀ ਵਿੱਚ ਦਿੱਤੇ ਸ਼ਬਦ ਦਾ ਪੰਜਾਬੀ ਵਿੱਚ ਅਨੁਵਾਦ ਕਰੋ।  
4

Reputation

- Ans
- 1. ਪ੍ਰਤਿਸ਼ਠਾ
  - 2. ਪ੍ਰਤਿਸਮਰਥਾ
  - 3. ਨਿਸ਼ਚਤਾ
  - 4. ਪ੍ਰਤਿਕੁਲਤਾ

Question ID : 441009308855

Option 1 ID : 4410091202077

Option 2 ID : 4410091202079

Option 3 ID : 4410091202078

Option 4 ID : 4410091202076

Status : Answered

Chosen Option : 1

Q.4 5	ਜਿਹੜੇ ਸ਼ਬਦ ਤੋਂ ਸਾਨੂੰ ਕਿਸੇ ਖ਼ਾਸ ਵਿਅਕਤੀ, ਖ਼ਾਸ ਜੀਵ ਜਾਂ ਖ਼ਾਸ ਵਸਤੂ ਦਾ ਗਿਆਨ ਹੁੰਦਾ ਹੈ:
Ans	<input checked="" type="checkbox"/> 1. ਨਿੱਜਵਾਚਕ ਨਾਂਵ <input type="checkbox"/> 2. ਸਮੂਹਵਾਚਕ ਨਾਂਵ <input type="checkbox"/> 3. ਜਾਤੀਵਾਚਕ ਨਾਂਵ <input type="checkbox"/> 4. ਪਦਾਰਥਵਾਚਕ ਨਾਂਵ

Question ID :	441009362129
Option 1 ID :	4410091414723
Option 2 ID :	4410091414725
Option 3 ID :	4410091414724
Option 4 ID :	4410091414726
Status :	Answered
Chosen Option :	2

Q.4 6	ਹੇਠਾਂ ਦਿੱਤੇ ਪੰਜਾਬੀ ਵਾਕ ਦਾ ਸਭ ਤੋਂ ਢੁਕਵਾਂ ਅੰਗਰੇਜ਼ੀ ਅਨੁਵਾਦ ਚੁਣੋ: "ਰਾਸ਼ਟਰੀ ਏਕਤਾ ਦੇਸ਼ ਦੀ ਤਾਕਤ ਦਾ ਪ੍ਰਤੀਕ ਹੈ।"
Ans	<input checked="" type="checkbox"/> 1. National unity is a symbol of the country's strength. <input type="checkbox"/> 2. National cohesion represents the might of the nation. <input type="checkbox"/> 3. National integration signifies the power of the state. <input type="checkbox"/> 4. National solidarity denotes the vigor of the land.

Question ID :	441009464052
Option 1 ID :	4410091814793
Option 2 ID :	4410091814794
Option 3 ID :	4410091814795
Option 4 ID :	4410091814796
Status :	Answered
Chosen Option :	1

Q.4 7	ਅੰਗਰੇਜ਼ੀ ਵਿੱਚ ਦਿੱਤੇ ਸ਼ਬਦ ਦਾ ਪੰਜਾਬੀ ਵਿੱਚ ਅਨੁਵਾਦ ਕਰੋ। Agent
Ans	<input type="checkbox"/> 1. ਖ਼ੜੀਆ <input type="checkbox"/> 2. ਕਾਰਕ <input type="checkbox"/> 3. ਜਾਸੂਸ <input checked="" type="checkbox"/> 4. ਦਲਾਲ

Question ID :	441009327979
Option 1 ID :	4410091278387
Option 2 ID :	4410091278389
Option 3 ID :	4410091278388
Option 4 ID :	4410091278390
Status :	Answered
Chosen Option :	3

Test

Prime

By Adda247

# Previous Year Papers PDF

PRACTICE MORE, SCORE HIGHER!



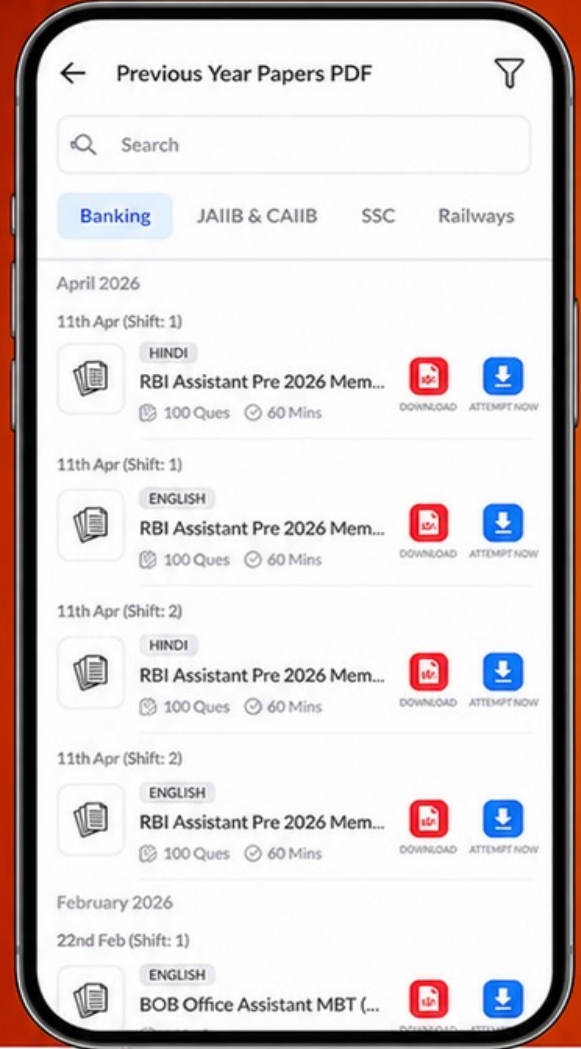
Free  
**25,000+**  
PDF's

High-Quality | Exam-Wise | Updated Regularly

ATTEMPT AS  
**MOCK**



Turn PDFs into real exam experience.  
Analyze. Improve. Succeed.



Topic-wise & Exam-wise PDFs



Download & Study Offline



Attempt as Mock & Track Score



Smart Analysis & Performance

AVAILABLE IN



Banking



SSC



Railway



Teaching



UGC



Agriculture



Nursing



Bihar



UP



Punjab



WB



Odisha



TN



AP & Telangana



Haryana



DOWNLOAD THE APP



Q.4  
8 ਦਿੱਤੇ ਗਏ ਸ਼ਬਦਾਂ ਵਿੱਚੋਂ, ਉਹ ਵਿਕਲਪ ਚੁਣੋ, ਜਿਹੜਾ "ਮੁੱਖੜਾ" ਸ਼ਬਦ ਵਿੱਚ ਲੱਗਿਆ ਪਿਛੇਤਰ ਹੈ।

- Ans
- 1. ਝਾ
  - 2. ਮੁੱਖ
  - 3. ਆ
  - 4. ਖੜਾ

Question ID :	441009640235
Option 1 ID :	4410092515090
Option 2 ID :	4410092515088
Option 3 ID :	4410092515091
Option 4 ID :	4410092515089
Status :	Answered
Chosen Option :	1

Q.4  
9 ਉਸਤਤ ਦਾ ਵਿਰੋਧੀ ਸ਼ਬਦ ਹੈ :-

- Ans
- 1. ਨੀਵਾਂ
  - 2. ਉੱਪਾ
  - 3. ਨਿੰਦਿਆ
  - 4. ਉੱਚਾ

Question ID :	441009209799
Option 1 ID :	441009824423
Option 2 ID :	441009824425
Option 3 ID :	441009824424
Option 4 ID :	441009824426
Status :	Answered
Chosen Option :	3

Q.5  
0 50 ਦਾ ਸ਼ੁੱਧ ਪੰਜਾਬੀ ਸ਼ਬਦ-ਜੋੜ ਚੁਣੋ :-

- Ans
- 1. ਪੰਵਾਰ
  - 2. ਪੰਜਾਹ
  - 3. ਪੰਜਾਅ
  - 4. ਪੰਝਾਰ

Question ID :	441009211400
Option 1 ID :	441009830198
Option 2 ID :	441009830197
Option 3 ID :	441009830196
Option 4 ID :	441009830199
Status :	Answered
Chosen Option :	2