

Q.1 74ਵੇਂ ਸੋਧ ਐਕਟ 1992 ਦੇ ਅਨੁਸਾਰ, ਕਿਸ ਕਿਸਮ ਦੇ ਖੇਤਰਾਂ ਲਈ ਨਗਰ ਪਰਿਸ਼ਦਾਂ ਬਣਾਈਆਂ ਗਈਆਂ ਹਨ?

- Ans
- 1. ਵੱਡੇ ਸ਼ਹਿਰੀ ਖੇਤਰ
 - 2. ਪੇਂਡੂ ਇਲਾਕੇ
 - 3. ਮਹਾਨਗਰੀ ਖੇਤਰ
 - 4. ਛੋਟੇ ਸ਼ਹਿਰੀ ਖੇਤਰ

Question ID : 441009106772

Option 1 ID : 441009425131

Option 2 ID : 441009425132

Option 3 ID : 441009425134

Option 4 ID : 441009425133

Status : Answered

Chosen Option : 1

Q.2 In which location was the BrahMos Aerospace Integration and Testing Facility officially opened, in May 2025?

- Ans
- 1. Lucknow
 - 2. Chennai
 - 3. Mumbai
 - 4. Hyderabad

Question ID : 441009125261

Option 1 ID : 441009497906

Option 2 ID : 441009497907

Option 3 ID : 441009497908

Option 4 ID : 441009497909

Status : Answered

Chosen Option : 2

Q.3 2011 ਦੀ ਜਨਗਣਨਾ ਦੇ ਅਨੁਸਾਰ, ਪੰਜਾਬ ਦੀ ਕੁੱਲ ਆਬਾਦੀ ਦਾ ਕਿੰਨਾ ਪ੍ਰਤੀਸ਼ਤ ਪੇਂਡੂ ਖੇਤਰਾਂ ਵਿੱਚ ਰਹਿੰਦਾ ਸੀ?

- Ans
- 1. 62.52%
 - 2. 51.1%
 - 3. 69%
 - 4. 55%

Question ID : 441009137745

Option 1 ID : 441009547214

Option 2 ID : 441009547212

Option 3 ID : 441009547213

Option 4 ID : 441009547215

Status : Answered

Chosen Option : 1

**Test
Prime**

By Adda247

ALL EXAMS, ONE SUBSCRIPTION



Test. Analyze. Improve. Repeat.



Don't just *prepare*. *Perform*.

Test Prime — built only for mock tests.



1,50,000+
Mock Tests



25,000+
Previous Year Papers



800+
Exam Covered



500% Refund
on Selection



5 lakh+
Free Quizzes



Daily
Free PDFs



Job Alerts
Stay Updated

- Multilingual
- Detailed Solution
- Strong and Weak Areas



**All India
Rankings**

Compete with lakhs.
Rank. Improve. Repeat.



← Adda247 test prime

Rating ▾

Editors' choice

New



Adda247 Test Prime
Adda Education • Education
📌 Installed



DOWNLOAD THE APP



Q.4 Which of the following states are NOT part of the Fifth Schedule areas under the Panchayats (Extension to Scheduled Areas) - PESA - Act?

- i. Rajasthan
- ii. Madhya Pradesh
- iii. Assam
- iv. Tamil Nadu

- Ans**
- 1. Both i and iv
 - 2. Both ii and iv
 - 3. Both i and ii
 - 4. Both iii and iv

Question ID : 441009132251

Option 1 ID : 441009525709

Option 2 ID : 441009525712

Option 3 ID : 441009525710

Option 4 ID : 441009525711

Status : Answered

Chosen Option : 2

Q.5 Which of the following Fundamental Rights CANNOT be suspended even during Emergency (Article 352) as per the 44th Constitution Amendment Act?

- Ans**
- 1. Article 19
 - 2. Article 20
 - 3. Article 18
 - 4. Article 22

Question ID : 441009142241

Option 1 ID : 441009565107

Option 2 ID : 441009565108

Option 3 ID : 441009565106

Option 4 ID : 441009565109

Status : Answered

Chosen Option : 1

Q.6 The Ninth Schedule to the Indian Constitution is added through which Constitutional Amendment Act?

- Ans**
- 1. The Constitution (Fourth Amendment) Act
 - 2. The Constitution (Second Amendment) Act
 - 3. The Constitution (First Amendment) Act
 - 4. The Constitution (Third Amendment) Act

Question ID : 441009107344

Option 1 ID : 441009427380

Option 2 ID : 441009427378

Option 3 ID : 441009427377

Option 4 ID : 441009427379

Status : Answered

Chosen Option : 4

Q.7 ਗਣਤੰਤਰ ਦਿਵਸ 2025 ਦੇ ਮੌਕੇ 'ਤੇ ਪੰਜਾਬ ਪੁਲਿਸ ਦੇ ਵਧੀਕ ਡਾਇਰੈਕਟਰ ਜਨਰਲ ਰਾਜੇਸ਼ ਕੁਮਾਰ ਜੈਸਵਾਲ ਨੂੰ ਹੇਠ ਲਿਖਿਆਂ ਵਿੱਚੋਂ ਕਿਹੜਾ ਪੁਰਸਕਾਰ ਮਿਲਿਆ?

Ans 1. ਵਿਸ਼ਿਸ਼ਟ ਸੇਵਾ ਲਈ ਰਾਸ਼ਟਰਪਤੀ ਮੈਡਲ (PSM)

2. ਪਦਮ ਸ਼੍ਰੀ

3. ਪਦਮ ਭੂਸ਼ਣ

4. ਬਹਾਦਰੀ ਲਈ ਮੈਡਲ (GM)

Question ID : 441009115219

Option 1 ID : 441009458319

Option 2 ID : 441009458316

Option 3 ID : 441009458317

Option 4 ID : 441009458318

Status : Answered

Chosen Option : 1

Q.8 2023 ਵਿੱਚ, ਦਿੱਲੀ ਵਿੱਚ ਇੱਕ ਵਿਦਿਆਰਥੀ ਨੂੰ ਉਸਦੇ ਧਰਮ ਕਾਰਨ ਇੱਕ ਪ੍ਰਾਈਵੇਟ ਸਕੂਲ ਵਿੱਚ ਦਾਖਲਾ ਦੇਣ ਤੋਂ ਇਨਕਾਰ ਕਰ ਦਿੱਤਾ ਗਿਆ ਸੀ। ਭਾਰਤੀ ਸੰਵਿਧਾਨ ਦਾ ਕਿਹੜਾ ਮੂਲ ਅਧਿਕਾਰ ਉਸਨੂੰ ਅਜਿਹੇ ਵਿਤਕਰੇ ਤੋਂ ਬਚਾਉਂਦਾ ਹੈ?

Ans 1. ਜ਼ਾਇਦਾਦ ਦਾ ਅਧਿਕਾਰ

2. ਸਮਾਨਤਾ ਦਾ ਅਧਿਕਾਰ

3. ਆਜ਼ਾਦੀ ਦਾ ਅਧਿਕਾਰ

4. ਸਿੱਖਿਆ ਦਾ ਅਧਿਕਾਰ

Question ID : 441009122855

Option 1 ID : 441009488332

Option 2 ID : 441009488329

Option 3 ID : 441009488330

Option 4 ID : 441009488331

Status : Answered

Chosen Option : 2

Q.9 ਸਾਲ 2021-22 ਵਿੱਚ ਪੰਜਾਬ ਵਿੱਚ ਇੱਕ ਡਾਕਘਰ ਦੁਆਰਾ ਔਸਤਨ ਕਿੰਨੀ ਆਬਾਦੀ ਨੂੰ ਸੇਵਾ ਪ੍ਰਦਾਨ ਕੀਤੀ ਗਈ ਸੀ?

Ans 1. 10,000 ਲੋਕ

2. 6,542 ਲੋਕ

3. 5,000 ਲੋਕ

4. 7,232 ਲੋਕ

Question ID : 441009139858

Option 1 ID : 441009555668

Option 2 ID : 441009555666

Option 3 ID : 441009555665

Option 4 ID : 441009555667

Status : Answered

Chosen Option : 2

Q.1 0	What was the theme of World Wildlife Day 2025?
Ans	<input checked="" type="checkbox"/> 1. Partnerships for Wildlife Conservation
	<input checked="" type="checkbox"/> 2. Recovering Key Species for Ecosystem Restoration
	<input checked="" type="checkbox"/> 3. Wildlife Conservation Finance: Investing in People and Planet
	<input checked="" type="checkbox"/> 4. Forests and Livelihoods: Sustaining People and Planet

Question ID :	441009109110
Option 1 ID :	441009434259
Option 2 ID :	441009434258
Option 3 ID :	441009434260
Option 4 ID :	441009434261
Status :	Answered
Chosen Option :	4

Q.1 1	Niharika Vashist of Punjab, who won a gold medal at the 2025 National Games, is associated with which of the following athletic events?
Ans	<input checked="" type="checkbox"/> 1. Long Jump
	<input checked="" type="checkbox"/> 2. Discus Throw
	<input checked="" type="checkbox"/> 3. Triple Jump
	<input checked="" type="checkbox"/> 4. Hammer Throw

Question ID :	441009115297
Option 1 ID :	441009458622
Option 2 ID :	441009458621
Option 3 ID :	441009458620
Option 4 ID :	441009458623
Status :	Answered
Chosen Option :	2

Q.1 2	Which ministry organised the World Wetlands Day 2025 celebrations at Parvati Arga Ramsar Site in India?
Ans	<input checked="" type="checkbox"/> 1. Ministry of Environment, Forest and Climate Change
	<input checked="" type="checkbox"/> 2. Ministry of Tourism
	<input checked="" type="checkbox"/> 3. Ministry of Agriculture and Farmers Welfare
	<input checked="" type="checkbox"/> 4. Ministry of Jal Shakti

Question ID :	441009128201
Option 1 ID :	441009509424
Option 2 ID :	441009509426
Option 3 ID :	441009509425
Option 4 ID :	441009509423
Status :	Answered
Chosen Option :	2

Q.1 ਪੰਜਾਬ ਦੇ ਦੱਖਣ-ਪੱਛਮੀ ਖੇਤਰ ਵਿੱਚ ਪ੍ਰਮੁੱਖ ਤੌਰ 'ਤੇ ਕਿਸ ਕਿਸਮ ਦੀ ਮਿੱਟੀ ਪਾਈ ਜਾਂਦੀ ਹੈ?

- 3
- Ans 1. ਚੂਨੇ ਵਾਲੀ ਮਿੱਟੀ
2. ਲੈਟੇਰਾਈਟ ਮਿੱਟੀ
3. ਕਾਲੀ ਮਿੱਟੀ
4. ਲਾਲ ਮਿੱਟੀ

Question ID : 44100989358

Option 1 ID : 441009355577

Option 2 ID : 441009355576

Option 3 ID : 441009355575

Option 4 ID : 441009355578

Status : Answered

Chosen Option : 4

Q.1 In which city of Punjab did the Gurudwara Reform Movement originate?

- 4
- Ans 1. Patiala
2. Moga
3. Amritsar
4. Pathankot

Question ID : 441009112618

Option 1 ID : 441009448079

Option 2 ID : 441009448080

Option 3 ID : 441009448082

Option 4 ID : 441009448081

Status : Answered

Chosen Option : 3

Q.1 Which Punjabi poet wrote the Var of Nadir Shah, a heroic ballad about historical events?

- 5
- Ans 1. Waris Shah
2. Najabat
3. Baba Farid
4. Bulleh Shah

Question ID : 441009106417

Option 1 ID : 441009423688

Option 2 ID : 441009423690

Option 3 ID : 441009423687

Option 4 ID : 441009423689

Status : Answered

Chosen Option : 2

Q.1 6 ਭਾਰਤੀ ਸੰਵਿਧਾਨ ਦੀ 101ਵੀਂ ਸੋਧ ਹੇਠ ਲਿਖਿਆਂ ਵਿੱਚੋਂ ਕਿਸ ਨਾਲ ਸੰਬੰਧਿਤ ਹੈ?

- Ans
- 1. ਸਹਿਕਾਰੀ
 - 2. ਆਰਥਿਕ ਤੌਰ 'ਤੇ ਕਮਜ਼ੋਰ ਵਰਗ
 - 3. ਵਸਤੂਆਂ ਅਤੇ ਸੇਵਾਵਾਂ ਕਰ
 - 4. ਜਾਣਕਾਰੀ ਦਾ ਅਧਿਕਾਰ

Question ID : 441009106773

Option 1 ID : 441009425137

Option 2 ID : 441009425136

Option 3 ID : 441009425135

Option 4 ID : 441009425138

Status : Answered

Chosen Option : 3

Q.1 7 2024 ਵਿੱਚ, ਲਖਨਊ ਨਗਰ ਨਿਗਮ ਨੂੰ ਇੱਕ ਨਵੇਂ ਪੁਲ ਪ੍ਰੋਜੈਕਟ ਲਈ ਧਨ ਦੀ ਘਾਟ ਦਾ ਸਾਹਮਣਾ ਕਰਨਾ ਪਿਆ। ਨਗਰ ਪਾਲਿਕਾਵਾਂ ਨੂੰ ਵਿੱਤੀ ਵੰਡ ਦੀ ਸਿਫਾਰਿਸ਼ ਕਰਨ ਲਈ ਰਾਜ ਵਿੱਤ ਕਮਿਸ਼ਨ ਦੇ ਗਠਨ ਕਰਨ ਨੂੰ ਕਿਹੜਾ ਅਨੁਛੇਦ ਯਕੀਨੀ ਬਣਾਉਂਦਾ ਹੈ?

- Ans
- 1. ਅਨੁਛੇਦ 243X
 - 2. ਅਨੁਛੇਦ 243W
 - 3. ਅਨੁਛੇਦ 243Z
 - 4. ਅਨੁਛੇਦ 243Y

Question ID : 441009121120

Option 1 ID : 441009481499

Option 2 ID : 441009481501

Option 3 ID : 441009481500

Option 4 ID : 441009481498

Status : Answered

Chosen Option : 2

Q.1 8 ਪੰਜਾਬ ਦੀ ਆਬਕਾਰੀ ਨੀਤੀ 2025-26 ਦੇ ਤਹਿਤ ਟੀਚਾਬੱਧ ਮਾਲੀਆ (targeted revenue) ਕਿੰਨਾ ਹੈ?

- Ans
- 1. ₹12,080 ਕਰੋੜ
 - 2. ₹11,020 ਕਰੋੜ
 - 3. ₹10,500 ਕਰੋੜ
 - 4. ₹9,800 ਕਰੋੜ

Question ID : 44100994472

Option 1 ID : 441009375884

Option 2 ID : 441009375883

Option 3 ID : 441009375882

Option 4 ID : 441009375885

Status : Answered

Chosen Option : 3

Q.1 9 ਪੰਜਾਬ ਕਾਰੋਬਾਰ ਦਾ ਅਧਿਕਾਰ ਐਕਟ, 2020 (Punjab Right to Business Act, 2020) ਦਾ ਮੁੱਖ ਉਦੇਸ਼ ਕੀ ਹੈ?

- Ans
- 1. ਪੰਜਾਬ ਵਿੱਚ ਸਿੱਧੇ ਵਿਦੇਸ਼ੀ ਨਿਵੇਸ਼ (FDI) ਨੂੰ ਉਤਸ਼ਾਹਿਤ ਕਰਨਾ
 - 2. MSMEs ਲਈ ਰੈਗੂਲੇਟਰੀ ਜ਼ਰੂਰਤਾਂ ਨੂੰ ਸੌਖਾ ਬਣਾਉਣਾ ਅਤੇ ਪ੍ਰਵਾਨਗੀਆਂ ਨੂੰ ਸੁਚਾਰੂ ਬਣਾਉਣਾ
 - 3. MSMEs ਨੂੰ ਵਿੱਤੀ ਸਬਸਿਡੀਆਂ ਪ੍ਰਦਾਨ ਕਰਨਾ
 - 4. ਰਾਜ ਵਿੱਚ ਵਪਾਰਕ ਟੈਕਸ ਨੂੰ ਨਿਯਮਤ ਕਰਨਾ

Question ID :	441009111232
Option 1 ID :	441009442508
Option 2 ID :	441009442507
Option 3 ID :	441009442506
Option 4 ID :	441009442509
Status :	Answered
Chosen Option :	2

Q.2 0 ਹੇਠ ਲਿਖੀਆਂ ਵਿੱਚੋਂ ਕਿਹੜੀਆਂ ਖਾਣ-ਪੀਣ ਵਾਲੀਆਂ ਚੀਜ਼ਾਂ ਜਲਦੀ ਖਰਾਬ ਹੋਣ ਵਾਲੇ ਭੋਜਨ ਦੇ ਅਧੀਨ ਆਉਂਦੀਆਂ ਹਨ?

- Ans
- 1. ਖੰਡ
 - 2. ਦੁੱਧ
 - 3. ਦਾਲਾਂ
 - 4. ਤੇਲ

Question ID :	441009115125
Option 1 ID :	441009457935
Option 2 ID :	441009457934
Option 3 ID :	441009457936
Option 4 ID :	441009457933
Status :	Answered
Chosen Option :	2

Q.2 1 Which of the following statements about relative humidity in Punjab is correct?

- Ans
- 1. Relative humidity is highest during April to June.
 - 2. Relative humidity remains consistently low throughout the year.
 - 3. Relative humidity is lowest in August and highest in May.
 - 4. The smallest diurnal variation in relative humidity occurs during the monsoon season.

Question ID :	441009109010
Option 1 ID :	441009433860
Option 2 ID :	441009433857
Option 3 ID :	441009433858
Option 4 ID :	441009433859
Status :	Answered
Chosen Option :	1

Q.2 ਭਾਰਤੀ ਸੰਵਿਧਾਨ ਦੇ ਕਿਸ ਅਨੁਛੇਦ ਦੇ ਤਹਿਤ ਹਾਈ ਕੋਰਟ ਕੋਲ ਅਧੀਨ ਅਦਾਲਤਾਂ ਉੱਤੇ ਨਿਗਰਾਨੀ ਦੀ ਸ਼ਕਤੀ ਹੈ?

2

Ans 1. ਅਨੁਛੇਦ 227

2. ਅਨੁਛੇਦ 50

3. ਅਨੁਛੇਦ 356

4. ਅਨੁਛੇਦ 124

Question ID : 441009109985

Option 1 ID : 441009437518

Option 2 ID : 441009437517

Option 3 ID : 441009437520

Option 4 ID : 441009437519

Status : Answered

Chosen Option : 3

Q.2 ਪੰਜਾਬ ਦਾ ਕੁੱਲ ਭੂਗੋਲਿਕ ਖੇਤਰਫਲ ਕਿੰਨਾ ਹੈ?

3

Ans 1. 60,500 sq. km

2. 55,000 sq. km

3. 50,362 sq. km

4. 45,210 sq. km

Question ID : 44100986208

Option 1 ID : 441009342565

Option 2 ID : 441009342562

Option 3 ID : 441009342563

Option 4 ID : 441009342564

Status : Answered

Chosen Option : 3

Q.2 ਇੱਕ ਬੱਚਾ ਐਡੀਮਾ (oedema) ਅਤੇ ਚਰਬੀ ਦੇ ਨਾਲ ਜਿਗਰ ਦੇ ਵਧੇ ਹੋਏ ਆਕਾਰ ਤੋਂ ਪੀੜਤ ਹੈ। ਹੇਠ ਲਿਖਿਆਂ ਵਿੱਚੋਂ ਇਸਦਾ ਸੰਭਾਵੀ ਕਾਰਨ ਕਿਹੜਾ ਹੋ ਸਕਦਾ ਹੈ?

4

Ans 1. ਵਿਟਾਮਿਨ A ਦੀ ਕਮੀ

2. ਕੈਲਸ਼ੀਅਮ ਦੀ ਕਮੀ

3. ਆਇਰਨ ਦੀ ਕਮੀ

4. ਪ੍ਰੋਟੀਨ ਦੀ ਕਮੀ

Question ID : 441009140342

Option 1 ID : 441009557578

Option 2 ID : 441009557579

Option 3 ID : 441009557577

Option 4 ID : 441009557576

Status : Answered

Chosen Option : 3

Q.2 As of March 2025, which of the following countries is collaborating with India to finalise a comprehensive and mutually beneficial Free Trade Agreement (FTA)?

Ans 1. New Zealand

2. Japan

3. Australia

4. South Korea

Question ID : 441009106175

Option 1 ID : 441009422738

Option 2 ID : 441009422736

Option 3 ID : 441009422735

Option 4 ID : 441009422737

Status : Answered

Chosen Option : 4

Q.2 In sports, diet before a competition should include more carbohydrates than fat, protein, etc. Which of the following foods should one eat before a competition?

Ans 1. Fish

2. Egg

3. Meat

4. Potatoes

Question ID : 441009123509

Option 1 ID : 441009490942

Option 2 ID : 441009490939

Option 3 ID : 441009490941

Option 4 ID : 441009490940

Status : Answered

Chosen Option : 1

Q.2 ਭਾਰਤੀ ਸੰਵਿਧਾਨ ਅਨੁਸਾਰ ਮੰਤਰੀ ਪ੍ਰੀਸ਼ਦ ਦੁਆਰਾ ਲਏ ਗਏ ਸਾਰੇ ਫੈਸਲਿਆਂ ਬਾਰੇ ਰਾਜਪਾਲ ਨੂੰ ਸੂਚਿਤ ਕਰਨ ਦਾ ਫਰਜ਼ ਹੇਠ ਲਿਖਿਆਂ ਵਿੱਚੋਂ ਕਿਸ ਨੂੰ ਸੌਂਪਿਆ ਗਿਆ ਹੈ?

Ans 1. ਉਪ ਮੁੱਖ ਮੰਤਰੀ ਨੂੰ

2. ਮੁੱਖ ਸਕੱਤਰ ਨੂੰ

3. ਮੁੱਖ ਮੰਤਰੀ ਨੂੰ

4. ਵਿਧਾਨ ਸਭਾ ਦੇ ਸਪੀਕਰ ਨੂੰ

Question ID : 441009116660

Option 1 ID : 441009463821

Option 2 ID : 441009463822

Option 3 ID : 441009463819

Option 4 ID : 441009463820

Status : Answered

Chosen Option : 2

Q.2 ਮਾਰਚ 2025 ਤੱਕ ਪੰਜਾਬ ਵਿੱਚ ਪ੍ਰਤੀ ਯੋਗ ਪਰਿਵਾਰ ਕਿੰਨੀਆਂ ਧੀਆਂ ਅਸ਼ੀਰਵਾਦ ਸਕੀਮ ਤੋਂ ਲਾਭ ਲੈ ਸਕਦੀਆਂ ਹਨ?

Ans 1. ਤਿੰਨ

2. ਦੋ

3. ਇੱਕ

4. ਚਾਰ

Question ID : 44100994102

Option 1 ID : 441009374384

Option 2 ID : 441009374383

Option 3 ID : 441009374382

Option 4 ID : 441009374385

Status : Answered

Chosen Option : 2

Q.2 What was the Supreme Court's directive in July 2024 regarding support persons for child victims of sexual abuse?

Ans 1. Support persons are optional.

2. Only the police can appoint support persons.

3. States were asked to respond within four weeks.

4. States must appoint support persons immediately.

Question ID : 441009108081

Option 1 ID : 441009430346

Option 2 ID : 441009430347

Option 3 ID : 441009430345

Option 4 ID : 441009430344

Status : Answered

Chosen Option : 4

Q.3 Which of the given food groups has the highest concentration of fluoride?

Ans 1. Bread and soy sauce

2. Leafy vegetable and whole grains

3. Tea and fish

4. Fruits and vegetables

Question ID : 441009142710

Option 1 ID : 441009566968

Option 2 ID : 441009566966

Option 3 ID : 441009566967

Option 4 ID : 441009566969

Status : Answered

Chosen Option : 2

Q.3 1 ਫਲੋਰਾਈਡ (fluoride) ਦਾ ਇੱਕ ਕੁਦਰਤੀ ਸਰੋਤ _____ ਹੈ।

Ans 1. ਕਣਕ

2. ਅੰਡਾ

3. ਦੁੱਧ

4. ਪਾਲਕ

Question ID : 441009146198

Option 1 ID : 441009580658

Option 2 ID : 441009580660

Option 3 ID : 441009580661

Option 4 ID : 441009580659

Status : Answered

Chosen Option : 4

Q.3 2 ਉਹ ਕਿਹੜਾ ਮੈਕਰੋਨਿਊਟ੍ਰੀਐਂਟ (macronutrient) ਹੈ, ਜੋ ਇੱਕ ਉਰਜਾ ਦਾ ਸਰੋਤ ਨਹੀਂ ਹੈ ਪਰ ਸਾਰੀਆਂ ਸਰੀਰਕ ਪ੍ਰਕਿਰਿਆਵਾਂ ਅਤੇ ਥਰਮੋਰੈਗੂਲੇਸ਼ਨ (thermoregulation) ਲਈ ਜ਼ਰੂਰੀ ਹੈ?

Ans 1. ਪਾਣੀ

2. ਕਾਰਬੋਹਾਈਡਰੇਟ

3. ਚਰਬੀ

4. ਪ੍ਰੋਟੀਨ

Question ID : 441009152253

Option 1 ID : 441009604177

Option 2 ID : 441009604176

Option 3 ID : 441009604178

Option 4 ID : 441009604175

Status : Answered

Chosen Option : 1

Q.3 3 ਪੰਜਾਬ ਦੇ ਕਿਹੜੇ ਆਗੂ ਨੇ ਬ੍ਰਿਟਿਸ਼ ਸ਼ਾਸਨ ਵਿਰੁੱਧ ਗਦਰ ਲਹਿਰ ਵਿੱਚ ਮਹੱਤਵਪੂਰਨ ਭੂਮਿਕਾ ਨਿਭਾਈ?

Ans 1. ਕਰਤਾਰ ਸਿੰਘ ਸਰਾਭਾ

2. ਸੁਬਰਾਮਣੀਆ ਭਾਰਤੀ

3. ਅਲਗਮੁਥੂ ਕੋਨ

4. ਬੁੱਧੂ ਭਗਤ

Question ID : 441009142832

Option 1 ID : 441009567430

Option 2 ID : 441009567432

Option 3 ID : 441009567431

Option 4 ID : 441009567433

Status : Answered

Chosen Option : 1

Q.3 Sodium helps with which of the following functions in the body?

4

Ans 1. Absorption of fat

2. Vitamin D production

3. Protein synthesis

4. Nerve signal transmission

Question ID : 441009146135

Option 1 ID : 441009580420

Option 2 ID : 441009580421

Option 3 ID : 441009580418

Option 4 ID : 441009580419

Status : Answered

Chosen Option : 4

Q.3 ਜੇਕਰ ਨਿਆਂਪਾਲਿਕਾ ਤੁਹਾਡੇ ਸ਼ਹਿਰ ਦੀ ਕਿਸੇ ਝੀਲ ਦੇ ਜਲ ਸਰੋਤ ਦੀ ਰੱਖਿਆ ਲਈ ਸਰਗਰਮ ਭੂਮਿਕਾ ਨਿਭਾਉਂਦੀ ਹੈ, ਤਾਂ ਇਸ ਨੂੰ ਕੀ ਮੰਨਿਆ ਜਾਵੇਗਾ?

Ans 1. ਨਿਆਂਇਕ ਸਰਗਰਮੀ

2. ਨਿਆਂਇਕ ਸਮੀਖਿਆ

3. ਨਿਆਂਇਕ ਸੰਜਮ

4. ਨਿਆਂਇਕ ਓਵਰਰੀਚ

Question ID : 441009112960

Option 1 ID : 441009449403

Option 2 ID : 441009449404

Option 3 ID : 441009449405

Option 4 ID : 441009449406

Status : Answered

Chosen Option : 4

Section : Quantitative Aptitude and Numerical Skills

Q.3 ਇੱਕ ਪ੍ਰੀਖਿਆ ਵਿੱਚ, ਵੱਧ ਤੋਂ ਵੱਧ 100 ਅੰਕਾਂ ਵਿੱਚੋਂ B ਨੂੰ 56 ਅੰਕ ਮਿਲੇ ਜਦੋਂ ਕਿ A ਨੂੰ 80 ਅੰਕ ਮਿਲੇ। B ਦੇ ਅੰਕ, A ਦੇ ਅੰਕਾਂ ਦਾ ਕਿੰਨਾ ਪ੍ਰਤੀਸ਼ਤ ਸਨ?

Ans 1. 100%

2. 70%

3. 142.86%

4. 80%

Question ID : 441009191102

Option 1 ID : 441009753210

Option 2 ID : 441009753208

Option 3 ID : 441009753209

Option 4 ID : 441009753211

Status : Answered

Chosen Option : 2

Q.3 ਸਰਲ ਕਰੋ: $23 - [4 - \{9 - (4 + 6)\}]$

Ans 1. 18

2. 25

3. 22

4. 15

Question ID : 441009194429

Option 1 ID : 441009765663

Option 2 ID : 441009765666

Option 3 ID : 441009765665

Option 4 ID : 441009765664

Status : Answered

Chosen Option : 1

Q.3 Navya and Bhavya can paint a house in 40 days and 60 days, respectively. If they work on alternate days, starting with Bhavya, in how many days can the duo complete painting that house?

Ans 1. 48 days

2. 46 days

3. 47 days

4. 51 days

Question ID : 441009194146

Option 1 ID : 441009764531

Option 2 ID : 441009764533

Option 3 ID : 441009764532

Option 4 ID : 441009764534

Status : Answered

Chosen Option : 1

Q.3 ਇੱਕ ਵਪਾਰੀ ਕੋਲ 2952 kg ਖੰਡ ਹੈ। ਉਹ ਇਸਦਾ ਇੱਕ ਹਿੱਸਾ 13% ਲਾਭ 'ਤੇ ਅਤੇ ਬਾਕੀ ਬਚੀ ਮਾਤਰਾ ਨੂੰ 22% ਲਾਭ 'ਤੇ ਵੇਚਦਾ ਹੈ। ਜੇਕਰ ਉਸਦਾ ਕੁੱਲ ਲਾਭ 21% ਹੈ, ਤਾਂ ਖੰਡ ਦੀ ਕਿੰਨੀ ਮਾਤਰਾ (kg ਵਿੱਚ) 22% ਲਾਭ 'ਤੇ ਵੇਚੀ ਗਈ ਸੀ ?

Ans 1. 2631

2. 2629

3. 2624

4. 2620

Question ID : 441009191390

Option 1 ID : 441009754363

Option 2 ID : 441009754361

Option 3 ID : 441009754360

Option 4 ID : 441009754362

Status : Answered

Chosen Option : 4

Q.4 The price of fuel decreases by 10%, 25% and 45% in three successive months, but increases by 45% in the fourth month. What is the percentage increase/decrease (rounded off to two decimal places) in the price of fuel in the fourth month as compared to its original price?

- Ans
- 1. Increases by 45.63%
 - 2. Decreases by 46.17%
 - 3. Increases by 48.97%
 - 4. Decreases by 47.19%

Question ID : 441009194238

Option 1 ID : 441009764900

Option 2 ID : 441009764899

Option 3 ID : 441009764902

Option 4 ID : 441009764901

Status : Answered

Chosen Option : 2

Q.4 ਦੇ ਪਾਈਪ A ਅਤੇ B ਇੱਕ ਟੈਂਕ ਨੂੰ ਕ੍ਰਮਵਾਰ 18 ਮਿੰਟਾਂ ਅਤੇ 10 ਮਿੰਟਾਂ ਵਿੱਚ ਭਰ ਸਕਦੇ ਹਨ। ਦੋਵੇਂ ਪਾਈਪ ਇਕੱਠੇ ਖੋਲ੍ਹੇ ਜਾਂਦੇ ਹਨ ਪਰ 2 ਮਿੰਟਾਂ ਬਾਅਦ, ਪਾਈਪ A ਬੰਦ ਕਰ ਦਿੱਤਾ ਜਾਂਦਾ ਹੈ। ਬਾਕੀ ਬਚੇ ਟੈਂਕ ਨੂੰ ਭਰਨ ਲਈ ਕਿੰਨਾ ਸਮਾਂ ਚਾਹੀਦਾ ਹੈ?

- Ans
- 1. $\frac{70}{9}$ ਮਿੰਟ
 - 2. $\frac{71}{9}$ ਮਿੰਟ
 - 3. $\frac{72}{9}$ ਮਿੰਟ
 - 4. $\frac{62}{9}$ ਮਿੰਟ

Question ID : 441009191198

Option 1 ID : 441009753594

Option 2 ID : 441009753593

Option 3 ID : 441009753595

Option 4 ID : 441009753592

Status : Answered

Chosen Option : 4

Q.4
2 $\left(\frac{1}{4}\right)^{-3} + \left(\frac{1}{7}\right)^{-3} + \left(\frac{1}{9}\right)^{-3}$ ਦਾ ਮੁੱਲ ਪਤਾ ਕਰੋ।

- Ans
- 1. 1127
 - 2. 1136
 - 3. 1134
 - 4. 1140

Question ID :	441009194303
Option 1 ID :	441009765160
Option 2 ID :	441009765159
Option 3 ID :	441009765162
Option 4 ID :	441009765161
Status :	Answered
Chosen Option :	2

Q.4
3 ਤਿੰਨ ਵਿਅਕਤੀਆਂ ਦੀ ਔਸਤ ਉਮਰ 35 ਸਾਲ ਹੈ ਅਤੇ ਉਨ੍ਹਾਂ ਦੀ ਉਮਰ 2 : 5 : 7 ਦੇ ਅਨੁਪਾਤ ਵਿੱਚ ਹੈ। ਸਭ ਤੋਂ ਛੋਟੇ ਵਿਅਕਤੀ ਦੀ ਉਮਰ (ਸਾਲਾਂ ਵਿੱਚ) ਕਿੰਨੀ ਹੈ?

- Ans
- 1. 15
 - 2. 5
 - 3. 12.5
 - 4. 13

Question ID :	441009194686
Option 1 ID :	441009766691
Option 2 ID :	441009766692
Option 3 ID :	441009766693
Option 4 ID :	441009766694
Status :	Answered
Chosen Option :	1

Q.4
4 ਜੇਕਰ ਭਰਤ, ਜੋਤੀ ਅਤੇ ਵਿਸ਼ਾਲ ਵਿੱਚ 362 ਸੇਬ $\frac{1}{3} : \frac{1}{6} : \frac{1}{2}$ ਦੇ ਅਨੁਪਾਤ ਵਿੱਚ ਵੰਡੇ ਜਾਣ ਤਾਂ ਵਿਸ਼ਾਲ ਨੂੰ ਕਿੰਨੇ ਸੇਬ ਮਿਲੇ ਸਨ?

- Ans
- 1. 181
 - 2. 161
 - 3. 171
 - 4. 151

Question ID :	441009191486
Option 1 ID :	441009754744
Option 2 ID :	441009754747
Option 3 ID :	441009754746
Option 4 ID :	441009754745
Status :	Answered
Chosen Option :	1

Q.4 5 ਕੇਸ਼ਵ ਨੇ 3 ਸਾਲਾਂ ਲਈ ਇੱਕ ਨਿਸ਼ਚਿਤ ਸਾਧਾਰਨ ਵਿਆਜ ਦਰ 'ਤੇ ₹24,000 ਦੀ ਧਨਰਾਸ਼ੀ ਉਧਾਰ ਲਈ। ਜੇਕਰ ਉਸਨੇ ਮਿਆਦ ਦੇ ਅੰਤ 'ਤੇ x% ਸਾਲਾਨਾ ਵਿਆਜ ਦਰ 'ਤੇ ₹4,500 ਦਾ ਵਿਆਜ ਅਦਾ ਕੀਤਾ, ਤਾਂ x ਦਾ ਮੁੱਲ ਕਿੰਨਾ ਹੈ?

Ans 1. 5.25

2. 8.25

3. 6.25

4. 7.25

Question ID : 441009194572

Option 1 ID : 441009766238

Option 2 ID : 441009766237

Option 3 ID : 441009766235

Option 4 ID : 441009766236

Status : Answered

Chosen Option : 3

Q.4 6 ਇੱਕ ਦਰਜੀ ₹300 ਵਿੱਚ ਇੱਕ ਫੈਬਰਿਕ ਰੋਲ ਖਰੀਦਦਾ ਹੈ ਅਤੇ ਇਸ ਨੂੰ 60% ਵੱਧ ਮੁੱਲ 'ਤੇ ਅੰਕਿਤ ਕਰਦਾ ਹੈ। ਉਹ ਸਟੋਕ ਖਾਲੀ ਕਰਨ ਲਈ 25% ਦੀ ਛੋਟ ਦੀ ਪੇਸ਼ਕਸ਼ ਕਰਦਾ ਹੈ। ਫੈਬਰਿਕ ਰੋਲ ਦਾ ਵੇਚ ਮੁੱਲ ਕਿੰਨਾ ਹੈ?

Ans 1. ₹360

2. ₹350

3. ₹240

4. ₹400

Question ID : 441009134894

Option 1 ID : 441009536218

Option 2 ID : 441009536217

Option 3 ID : 441009536216

Option 4 ID : 441009536219

Status : Answered

Chosen Option : 1

Q.4 7 ਸਚਿਨ ਨੇ 10 kg ਚੌਲ ₹37 ਪ੍ਰਤੀ kg ਦੀ ਦਰ ਨਾਲ ਅਤੇ 30 kg ਚੌਲ ₹45 ਪ੍ਰਤੀ kg ਦੀ ਦਰ ਨਾਲ ਖਰੀਦੇ। ਉਸਨੇ ਸਾਰਾ ਮਿਸ਼ਰਣ ₹42.5 ਪ੍ਰਤੀ kg ਦੀ ਦਰ ਨਾਲ ਵੇਚ ਦਿੱਤਾ। ਉਸਦੀ ਹਾਨੀ (ਵ ਵਿੱਚ) ਪਤਾ ਕਰੋ।

Ans 1. 25

2. 20

3. 28

4. 15

Question ID : 441009191021

Option 1 ID : 441009752885

Option 2 ID : 441009752884

Option 3 ID : 441009752887

Option 4 ID : 441009752886

Status : Answered

Chosen Option : 2

Q.4
8 ਮੁੱਲ ਪਤਾ ਕਰੋ।

$$\frac{1.1 \times 1.1 \times 1.1 - 0.11 \times 0.11 \times 0.11}{11 \times 11 \times 11}$$

- Ans
1. 0.0999
2. 0.00999
3. 0.0000999
4. 0.000999

Question ID :	441009194471
Option 1 ID :	441009765833
Option 2 ID :	441009765832
Option 3 ID :	441009765834
Option 4 ID :	441009765831
Status :	Answered
Chosen Option :	4

Q.4
9 ਕਰਨ, ਸ਼ੁਰੂਤੀ ਅਤੇ ਈਸ਼ਾਨ ਨੇ ਇੱਕ ਕਾਰੋਬਾਰ ਵਿੱਚ 10 : 14 : 19 ਦੇ ਅਨੁਪਾਤ ਵਿੱਚ ਨਿਵੇਸ਼ ਕੀਤਾ। ਉਨ੍ਹਾਂ ਨੇ ਕ੍ਰਮਵਾਰ 12 ਮਹੀਨੇ, 1 ਮਹੀਨੇ ਅਤੇ 11 ਮਹੀਨਿਆਂ ਲਈ ਆਪਣੀ ਪੂੰਜੀ ਦਾ ਨਿਵੇਸ਼ ਕੀਤਾ। ਉਨ੍ਹਾਂ ਦੇ ਲਾਭ ਦਾ ਅਨੁਪਾਤ ਕੀ ਸੀ?

- Ans
1. 118 : 14 : 209
2. 120 : 14 : 209
3. 121 : 14 : 209
4. 123 : 14 : 209

Question ID :	441009194029
Option 1 ID :	441009764066
Option 2 ID :	441009764063
Option 3 ID :	441009764064
Option 4 ID :	441009764065
Status :	Answered
Chosen Option :	2

Q.5
0 ਸਲਿਲ ਨੇ 162 ਕੁਰਸੀਆਂ ਵੇਚੀਆਂ ਅਤੇ ਉਸਨੂੰ 81 ਕੁਰਸੀਆਂ ਦੇ ਵਿਕਰੀ ਮੁੱਲ ਦੇ ਬਰਾਬਰ ਲਾਭ ਹੋਇਆ। ਉਸਦਾ ਲਾਭ ਪ੍ਰਤੀਸ਼ਤ ਕੀ ਹੈ?

- Ans
1. 105%
2. 95%
3. 100%
4. 110%

Question ID :	441009194218
Option 1 ID :	441009764821
Option 2 ID :	441009764820
Option 3 ID :	441009764819
Option 4 ID :	441009764822
Status :	Answered
Chosen Option :	3

Q.5
1 ਇੱਕ ਵਪਾਰੀ ਇੱਕ ਵਸਤੂ ਨੂੰ ਉਸਦੇ ਅੰਕਿਤ ਮੁੱਲ 'ਤੇ 62% ਅਤੇ 48% ਦੀਆਂ ਲਗਾਤਾਰ ਦੋ ਛੋਟਾਂ ਤੋਂ ਬਾਅਦ ਵੇਚਣ ਨਾਲ 30% ਦਾ ਲਾਭ ਹੁੰਦਾ ਹੈ। ਜੇਕਰ ਵਸਤੂ ਦਾ ਖਰੀਦ ਮੁੱਲ 50% ਵਧਾਇਆ ਜਾਂਦਾ ਹੈ, ਤਾਂ ਉਸ ਨੂੰ ਹੁਣ ਉਸੇ ਅੰਕਿਤ ਮੁੱਲ 'ਤੇ ਕਿਹੜੀ ਇਕਹਰੀ ਛੋਟ ਪ੍ਰਤੀਸ਼ਤ (ਇੱਕ ਦਸ਼ਮਲਵ ਸਥਾਨ ਤੱਕ ਨਿਕਟਤਮ) ਦੇਣੀ ਚਾਹੀਦੀ ਹੈ ਤਾਂ ਜੋ ਪਹਿਲਾਂ ਜਿੰਨਾ ਹੀ ਲਾਭ ਪ੍ਰਤੀਸ਼ਤ ਪ੍ਰਾਪਤ ਕੀਤਾ ਜਾ ਸਕੇ?

- Ans
- 1. 66.9%
 - 2. 78.2%
 - 3. 74.7%
 - 4. 70.4%

Question ID : 441009194093

Option 1 ID : 441009764320

Option 2 ID : 441009764322

Option 3 ID : 441009764321

Option 4 ID : 441009764319

Status : Answered

Chosen Option : 2

Q.5
2 ਇੱਕ ਬੱਲੇਬਾਜ਼ ਆਪਣੀ 12ਵੀਂ ਵਾਰੀ ਵਿੱਚ 98 ਦੌੜਾਂ ਬਣਾਉਂਦਾ ਹੈ ਅਤੇ ਇਸ ਤਰ੍ਹਾਂ ਉਸਦੀ ਔਸਤ ਵਿੱਚ 2 ਦੌੜਾਂ ਦਾ ਵਾਧਾ ਹੁੰਦਾ ਹੈ। 12ਵੀਂ ਵਾਰੀ ਤੋਂ ਬਾਅਦ ਉਸਦੀ ਔਸਤ (ਦੌੜਾਂ ਵਿੱਚ) ਕੀ ਹੈ?

- Ans
- 1. 79
 - 2. 98
 - 3. 76
 - 4. 101

Question ID : 441009191347

Option 1 ID : 441009754189

Option 2 ID : 441009754190

Option 3 ID : 441009754188

Option 4 ID : 441009754191

Status : Answered

Chosen Option : 2

Comprehension:

ਦਿੱਤੀ ਗਈ ਜਾਣਕਾਰੀ ਪੜ੍ਹੋ ਅਤੇ ਅੱਗੇ ਦਿੱਤੇ ਸਵਾਲਾਂ ਦੇ ਜਵਾਬ ਦਿਓ।

ਇੱਕ ਛੋਟੀ ਜੈਵਿਕ ਖਾਦ ਕੰਪਨੀ ਸਾਲ ਦਰ ਸਾਲ ਲਗਾਤਾਰ ਵਧ ਰਹੀ ਹੈ। ਉਨ੍ਹਾਂ ਦੇ ਮੁੱਖ ਉਤਪਾਦ ਦੀ ਕੀਮਤ ਸ਼ੁਰੂ ਵਿੱਚ ₹8,200 ਸੀ। ਪ੍ਰਬੰਧਨ ਟੀਮ ਨੇ ਉਨ੍ਹਾਂ ਦੇ ਮੁੱਖ ਉਤਪਾਦ ਦੀ ਕੀਮਤ ਵਿੱਚ ਸਾਲਾਨਾ ਪ੍ਰਤੀਸ਼ਤ ਵਾਧੇ ਨੂੰ ਟਰੈਕ ਕੀਤਾ। ਮੁੱਖ ਉਤਪਾਦ ਦੀ ਕੀਮਤ ਸਾਲਾਂ ਦੌਰਾਨ ਬਦਲ ਗਈ ਹੈ।

ਸਾਲ 1 ਵਿੱਚ, ਵਧਦੀ ਉਤਪਾਦਨ ਲਾਗਤ ਕਾਰਨ ਖਾਦ ਦੀ ਕੀਮਤ ਵਿੱਚ 10% ਦਾ ਵਾਧਾ ਹੋਇਆ।
ਸਾਲ 2 ਵਿੱਚ, ਕੰਪਨੀ ਨੇ ਨਵੀਆਂ ਮਾਰਕੀਟਿੰਗ ਰਣਨੀਤੀਆਂ ਅਤੇ ਬਿਹਤਰ ਪੈਕੇਜਿੰਗ ਲਾਗੂ ਕੀਤੀ, ਜਿਸ ਨਾਲ ਉਨ੍ਹਾਂ ਨੂੰ ਕੀਮਤ ਦੁਬਾਰਾ 15% ਵਧਾਉਣ ਦੀ ਆਗਿਆ ਮਿਲੀ।
ਸਾਲ 3 ਵਿੱਚ, ਮਜ਼ਬੂਤ ਮੰਗ ਅਤੇ ਬ੍ਰਾਂਡ ਵਫ਼ਾਦਾਰੀ ਨੂੰ ਦੇਖਦੇ ਹੋਏ, ਕੰਪਨੀ ਨੇ ਕੀਮਤ ਵਿੱਚ ਹੋਰ 20% ਦਾ ਵਾਧਾ ਕੀਤਾ।

SubQuestion No : 53

Q.5 ਸਾਲ 2 ਦੇ ਅੰਤ ਵਿੱਚ ਕੀਮਤ ਕਿੰਨੀ ਸੀ?
3

Ans ✓ 1. ₹10,373

✗ 2. ₹10,303

✗ 3. ₹10,363

✗ 4. ₹10,300

Question ID : 441009139415

Option 1 ID : 441009553935

Option 2 ID : 441009553937

Option 3 ID : 441009553936

Option 4 ID : 441009553938

Status : Answered

Chosen Option : 3

Comprehension:

ਦਿੱਤੀ ਗਈ ਜਾਣਕਾਰੀ ਪੜ੍ਹੋ ਅਤੇ ਅੱਗੇ ਦਿੱਤੇ ਸਵਾਲਾਂ ਦੇ ਜਵਾਬ ਦਿਓ।

ਇੱਕ ਛੋਟੀ ਜੈਵਿਕ ਖਾਦ ਕੰਪਨੀ ਸਾਲ ਦਰ ਸਾਲ ਲਗਾਤਾਰ ਵਧ ਰਹੀ ਹੈ। ਉਨ੍ਹਾਂ ਦੇ ਮੁੱਖ ਉਤਪਾਦ ਦੀ ਕੀਮਤ ਸ਼ੁਰੂ ਵਿੱਚ ₹8,200 ਸੀ। ਪ੍ਰਬੰਧਨ ਟੀਮ ਨੇ ਉਨ੍ਹਾਂ ਦੇ ਮੁੱਖ ਉਤਪਾਦ ਦੀ ਕੀਮਤ ਵਿੱਚ ਸਾਲਾਨਾ ਪ੍ਰਤੀਸ਼ਤ ਵਾਧੇ ਨੂੰ ਟਰੈਕ ਕੀਤਾ। ਮੁੱਖ ਉਤਪਾਦ ਦੀ ਕੀਮਤ ਸਾਲਾਂ ਦੌਰਾਨ ਬਦਲ ਗਈ ਹੈ।

ਸਾਲ 1 ਵਿੱਚ, ਵਧਦੀ ਉਤਪਾਦਨ ਲਾਗਤ ਕਾਰਨ ਖਾਦ ਦੀ ਕੀਮਤ ਵਿੱਚ 10% ਦਾ ਵਾਧਾ ਹੋਇਆ।
ਸਾਲ 2 ਵਿੱਚ, ਕੰਪਨੀ ਨੇ ਨਵੀਆਂ ਮਾਰਕੀਟਿੰਗ ਰਣਨੀਤੀਆਂ ਅਤੇ ਬਿਹਤਰ ਪੈਕੇਜਿੰਗ ਲਾਗੂ ਕੀਤੀ, ਜਿਸ ਨਾਲ ਉਨ੍ਹਾਂ ਨੂੰ ਕੀਮਤ ਦੁਬਾਰਾ 15% ਵਧਾਉਣ ਦੀ ਆਗਿਆ ਮਿਲੀ।
ਸਾਲ 3 ਵਿੱਚ, ਮਜ਼ਬੂਤ ਮੰਗ ਅਤੇ ਬ੍ਰਾਂਡ ਵਫ਼ਾਦਾਰੀ ਨੂੰ ਦੇਖਦੇ ਹੋਏ, ਕੰਪਨੀ ਨੇ ਕੀਮਤ ਵਿੱਚ ਹੋਰ 20% ਦਾ ਵਾਧਾ ਕੀਤਾ।

SubQuestion No : 54

Q.5 ਸਾਲ 1 ਦੇ ਅੰਤ ਵਿੱਚ ਕੀਮਤ ਕਿੰਨੀ ਸੀ?
4

Ans ✗ 1. ₹8,700

✗ 2. ₹9,200

✓ 3. ₹9,020

✗ 4. ₹8,900

Question ID : 441009139414

Option 1 ID : 441009553933

Option 2 ID : 441009553931

Option 3 ID : 441009553932

Option 4 ID : 441009553934

Status : Answered

Chosen Option : 3

Comprehension:

ਦਿੱਤੀ ਗਈ ਜਾਣਕਾਰੀ ਪੜ੍ਹੋ ਅਤੇ ਅੱਗੇ ਦਿੱਤੇ ਸਵਾਲਾਂ ਦੇ ਜਵਾਬ ਦਿਓ।

ਇੱਕ ਛੋਟੀ ਜੈਵਿਕ ਖਾਦ ਕੰਪਨੀ ਸਾਲ ਦਰ ਸਾਲ ਲਗਾਤਾਰ ਵਧ ਰਹੀ ਹੈ। ਉਨ੍ਹਾਂ ਦੇ ਮੁੱਖ ਉਤਪਾਦ ਦੀ ਕੀਮਤ ਸ਼ੁਰੂ ਵਿੱਚ ₹8,200 ਸੀ। ਪ੍ਰਬੰਧਨ ਟੀਮ ਨੇ ਉਨ੍ਹਾਂ ਦੇ ਮੁੱਖ ਉਤਪਾਦ ਦੀ ਕੀਮਤ ਵਿੱਚ ਸਾਲਾਨਾ ਪ੍ਰਤੀਸ਼ਤ ਵਾਧੇ ਨੂੰ ਟਰੈਕ ਕੀਤਾ। ਮੁੱਖ ਉਤਪਾਦ ਦੀ ਕੀਮਤ ਸਾਲਾਂ ਦੌਰਾਨ ਬਦਲ ਗਈ ਹੈ।

ਸਾਲ 1 ਵਿੱਚ, ਵਧਦੀ ਉਤਪਾਦਨ ਲਾਗਤ ਕਾਰਨ ਖਾਦ ਦੀ ਕੀਮਤ ਵਿੱਚ 10% ਦਾ ਵਾਧਾ ਹੋਇਆ।
ਸਾਲ 2 ਵਿੱਚ, ਕੰਪਨੀ ਨੇ ਨਵੀਆਂ ਮਾਰਕੀਟਿੰਗ ਰਣਨੀਤੀਆਂ ਅਤੇ ਬਿਹਤਰ ਪੈਕੇਜਿੰਗ ਲਾਗੂ ਕੀਤੀ, ਜਿਸ ਨਾਲ ਉਨ੍ਹਾਂ ਨੂੰ ਕੀਮਤ ਦੁਬਾਰਾ 15% ਵਧਾਉਣ ਦੀ ਆਗਿਆ ਮਿਲੀ।
ਸਾਲ 3 ਵਿੱਚ, ਮਜ਼ਬੂਤ ਮੰਗ ਅਤੇ ਬ੍ਰਾਂਡ ਵਫ਼ਾਦਾਰੀ ਨੂੰ ਦੇਖਦੇ ਹੋਏ, ਕੰਪਨੀ ਨੇ ਕੀਮਤ ਵਿੱਚ ਹੋਰ 20% ਦਾ ਵਾਧਾ ਕੀਤਾ।

SubQuestion No : 55

Q.5 3 ਸਾਲਾਂ ਦੇ ਅੰਤ ਵਿੱਚ ਕੀਮਤ ਕਿੰਨੀ ਸੀ?
5

Ans 1. ₹12,047.60

2. ₹12,447.60

3. ₹12,474.60

4. ₹12,450.60

Question ID : 441009139416

Option 1 ID : 441009553939

Option 2 ID : 441009553941

Option 3 ID : 441009553940

Option 4 ID : 441009553942

Status : Answered

Chosen Option : 4

Section : Mental Ability & Logical Reasoning

Comprehension:

ਇੱਕ ਪ੍ਰੀਖਿਆ ਵਿੱਚ, B ਨੇ ਆਪਣੀ ਕਲਾਸ ਵਿੱਚ ਉੱਪਰੋਂ 21ਵਾਂ ਅਤੇ C ਨੇ ਹੇਠਾਂ ਤੋਂ 23ਵਾਂ ਰੈਂਕ ਪ੍ਰਾਪਤ ਕੀਤਾ। C ਨੇ B ਤੋਂ ਦੋ ਸਥਾਨ ਹੇਠਾਂ ਦਾ ਰੈਂਕ ਪ੍ਰਾਪਤ ਕੀਤਾ।

SubQuestion No : 56

Q.5 ਕਲਾਸ ਵਿੱਚ ਕਿੰਨੇ ਵਿਦਿਆਰਥੀ ਹਨ?
6

Ans 1. 44

2. 47

3. 46

4. 45

Question ID : 44100980971

Option 1 ID : 441009321622

Option 2 ID : 441009321625

Option 3 ID : 441009321624

Option 4 ID : 441009321623

Status : Answered

Chosen Option : 3

Comprehension:

ਇੱਕ ਪ੍ਰੀਖਿਆ ਵਿੱਚ, B ਨੇ ਆਪਣੀ ਕਲਾਸ ਵਿੱਚ ਉੱਪਰੋਂ 21ਵਾਂ ਅਤੇ C ਨੇ ਹੇਠਾਂ ਤੋਂ 23ਵਾਂ ਰੈਂਕ ਪ੍ਰਾਪਤ ਕੀਤਾ। C ਨੇ B ਤੋਂ ਦੋ ਸਥਾਨ ਹੇਠਾਂ ਦਾ ਰੈਂਕ ਪ੍ਰਾਪਤ ਕੀਤਾ।

SubQuestion No : 57

Q.5 ਹੇਠਾਂ ਤੋਂ B ਦਾ ਸਥਾਨ ਕਿੰਨਵਾਂ ਹੈ?
7

Ans ✗ 1. 24

✓ 2. 25

✗ 3. 27

✗ 4. 26

Question ID : 44100980972

Option 1 ID : 441009321626

Option 2 ID : 441009321627

Option 3 ID : 441009321629

Option 4 ID : 441009321628

Status : Answered

Chosen Option : 4

Comprehension:

ਪੰਜ ਡੱਬੇ, A, B, M, N ਅਤੇ O, ਇੱਕ ਦੂਜੇ ਦੇ ਉੱਪਰ ਰੱਖੇ ਗਏ ਹਨ ਪਰ ਜ਼ਰੂਰੀ ਨਹੀਂ ਕਿ ਉਹ ਇਸੇ ਕ੍ਰਮ ਵਿੱਚ ਹੋਣ। ਸਿਰਫ਼ B ਨੂੰ A ਦੇ ਉੱਪਰ ਰੱਖਿਆ ਗਿਆ ਹੈ। ਸਿਰਫ਼ ਦੋ ਡੱਬੇ A ਅਤੇ N ਦੇ ਵਿਚਕਾਰ ਰੱਖੇ ਗਏ ਹਨ। O ਨੂੰ N ਦੇ ਠੀਕ ਉੱਪਰ ਨਹੀਂ ਰੱਖਿਆ ਗਿਆ ਹੈ।

SubQuestion No : 58

Q.5 ਕਿਹੜਾ ਡੱਬਾ ਹੇਠਾਂ ਤੋਂ ਤੀਜੇ ਸਥਾਨ 'ਤੇ ਹੈ?
8

Ans ✗ 1. A

✗ 2. N

✓ 3. O

✗ 4. M

Question ID : 44100981093

Option 1 ID : 441009322026

Option 2 ID : 441009322028

Option 3 ID : 441009322029

Option 4 ID : 441009322027

Status : Not Answered

Chosen Option : --

Comprehension:

ਪੰਜ ਡੱਬੇ, A, B, M, N ਅਤੇ O, ਇੱਕ ਦੂਜੇ ਦੇ ਉੱਪਰ ਰੱਖੇ ਗਏ ਹਨ ਪਰ ਜ਼ਰੂਰੀ ਨਹੀਂ ਕਿ ਉਹ ਇਸੇ ਕ੍ਰਮ ਵਿੱਚ ਹੋਣ। ਸਿਰਫ਼ B ਨੂੰ A ਦੇ ਉੱਪਰ ਰੱਖਿਆ ਗਿਆ ਹੈ। ਸਿਰਫ਼ ਦੋ ਡੱਬੇ A ਅਤੇ N ਦੇ ਵਿਚਕਾਰ ਰੱਖੇ ਗਏ ਹਨ। O ਨੂੰ N ਦੇ ਠੀਕ ਉੱਪਰ ਨਹੀਂ ਰੱਖਿਆ ਗਿਆ ਹੈ।

SubQuestion No : 59

Q.5 M ਅਤੇ B ਦੇ ਵਿਚਕਾਰ ਕਿੰਨੇ ਡੱਬੇ ਰੱਖੇ ਗਏ ਹਨ?

Ans 1. ਤਿੰਨ

2. ਇੱਕ

3. ਚਾਰ

4. ਦੋ

Question ID : 44100981094

Option 1 ID : 441009322032

Option 2 ID : 441009322030

Option 3 ID : 441009322033

Option 4 ID : 441009322031

Status : Not Answered

Chosen Option : --

Comprehension:

ਸ਼੍ਰੀ Z ਬਿੰਦੂ A ਤੋਂ ਗੱਡੀ ਚਲਾਉਣਾ ਸ਼ੁਰੂ ਕਰਦਾ ਹੈ ਅਤੇ ਪੂਰਬ ਵੱਲ 12 km ਗੱਡੀ ਚਲਾਉਂਦਾ ਹੈ। ਫਿਰ ਉਹ ਖੱਬਾ ਮੋੜ ਲੈਂਦਾ ਹੈ, 11 km ਗੱਡੀ ਚਲਾਉਂਦਾ ਹੈ, ਖੱਬੇ ਮੁੜਦਾ ਹੈ ਅਤੇ 19 km ਗੱਡੀ ਚਲਾਉਂਦਾ ਹੈ। ਫਿਰ ਉਹ ਖੱਬਾ ਮੋੜ ਲੈਂਦਾ ਹੈ ਅਤੇ 17 km ਗੱਡੀ ਚਲਾਉਂਦਾ ਹੈ। ਉਹ ਆਖਰੀ ਵਾਰ ਖੱਬਾ ਮੋੜ ਲੈਂਦਾ ਹੈ, 7 km ਗੱਡੀ ਚਲਾਉਂਦਾ ਹੈ ਅਤੇ ਬਿੰਦੂ P 'ਤੇ ਰੁਕਦਾ ਹੈ। (ਸਾਰੇ ਮੋੜ ਸਿਰਫ਼ 90 ਡਿਗਰੀ ਮੋੜ ਹਨ)

SubQuestion No : 60

Q.6 ਬਿੰਦੂ A 'ਤੇ ਦੁਬਾਰਾ ਪਹੁੰਚਣ ਲਈ ਉਸਨੂੰ ਕਿੰਨੀ ਦੂਰ (ਸਭ ਤੋਂ ਛੋਟੀ ਦੂਰੀ) ਗੱਡੀ ਚਲਾਉਣੀ ਚਾਹੀਦੀ ਹੈ?

Ans 1. 12 km

2. 6 km

3. 7 km

4. 11 km

Question ID : 44100981348

Option 1 ID : 441009322951

Option 2 ID : 441009322948

Option 3 ID : 441009322949

Option 4 ID : 441009322950

Status : Answered

Chosen Option : 2

Comprehension:

ਸ਼੍ਰੀ Z ਬਿੰਦੂ A ਤੋਂ ਗੱਡੀ ਚਲਾਉਣਾ ਸ਼ੁਰੂ ਕਰਦਾ ਹੈ ਅਤੇ ਪੂਰਬ ਵੱਲ 12 km ਗੱਡੀ ਚਲਾਉਂਦਾ ਹੈ। ਫਿਰ ਉਹ ਖੱਬਾ ਮੋੜ ਲੈਂਦਾ ਹੈ, 11 km ਗੱਡੀ ਚਲਾਉਂਦਾ ਹੈ, ਖੱਬੇ ਮੁੜਦਾ ਹੈ ਅਤੇ 19 km ਗੱਡੀ ਚਲਾਉਂਦਾ ਹੈ। ਫਿਰ ਉਹ ਖੱਬਾ ਮੋੜ ਲੈਂਦਾ ਹੈ ਅਤੇ 17 km ਗੱਡੀ ਚਲਾਉਂਦਾ ਹੈ। ਉਹ ਆਖਰੀ ਵਾਰ ਖੱਬਾ ਮੋੜ ਲੈਂਦਾ ਹੈ, 7 km ਗੱਡੀ ਚਲਾਉਂਦਾ ਹੈ ਅਤੇ ਬਿੰਦੂ P 'ਤੇ ਰੁਕਦਾ ਹੈ। (ਸਾਰੇ ਮੋੜ ਸਿਰਫ਼ 90 ਡਿਗਰੀ ਮੋੜ ਹਨ)

SubQuestion No : 61

Q.6 ਬਿੰਦੂ P ਤੋਂ ਦੁਬਾਰਾ ਬਿੰਦੂ A ਤੱਕ ਪਹੁੰਚਣ ਲਈ ਉਸਨੂੰ ਕਿਸ ਦਿਸ਼ਾ ਵੱਲ ਗੱਡੀ ਚਲਾਉਣੀ ਚਾਹੀਦੀ ਹੈ?

1

Ans 1. ਪੂਰਬ

2. ਪੱਛਮ

3. ਦੱਖਣ

4. ਉੱਤਰ

Question ID : 44100981349

Option 1 ID : 441009322954

Option 2 ID : 441009322955

Option 3 ID : 441009322952

Option 4 ID : 441009322953

Status : Answered

Chosen Option : 4

Q.6 ਦਿੱਤੀ ਗਈ ਲੜੀ ਵਿੱਚ ਪ੍ਰਸ਼ਨ ਚਿੰਨ੍ਹ (?) ਦੀ ਥਾਂ 'ਤੇ ਕੀ ਆਉਣਾ ਚਾਹੀਦਾ ਹੈ?

2

52 52.3 52.9 53.8 55 56.5 ?

Ans 1. 59.2

2. 58.5

3. 56.2

4. 58.3

Question ID : 441009109169

Option 1 ID : 441009434403

Option 2 ID : 441009434401

Option 3 ID : 441009434402

Option 4 ID : 441009434400

Status : Answered

Chosen Option : 4

Q.6 ENR ਅੰਗਰੇਜ਼ੀ ਵਰਣਮਾਲਾ ਦੇ ਕ੍ਰਮ ਦੇ ਆਧਾਰ 'ਤੇ ਇੱਕ ਖਾਸ ਤਰੀਕੇ ਨਾਲ DMQ ਨਾਲ ਸੰਬੰਧਿਤ ਹੈ। ਇਸੇ ਤਰ੍ਹਾਂ
3 CMS ਦਾ ਸੰਬੰਧ BLR ਨਾਲ ਹੈ। ਉਸੇ ਤਰਕ ਦੀ ਪਾਲਣਾ ਕਰਦੇ ਹੋਏ, ਹੇਠ ਲਿਖੇ ਵਿਕਲਪਾਂ ਵਿੱਚੋਂ MTD ਕਿਸ ਨਾਲ
ਸੰਬੰਧਿਤ ਹੈ?

- Ans 1. MUC
 2. LSC
 3. MSE
 4. LUE

Question ID : 441009100507

Option 1 ID : 441009400005

Option 2 ID : 441009400002

Option 3 ID : 441009400003

Option 4 ID : 441009400004

Status : Answered

Chosen Option : 2

Q.6 ਦਿੱਤੇ ਗਏ ਅੱਖਰ, ਚਿੰਨ੍ਹ ਲੜੀ ਵੇਖੋ ਅਤੇ ਅੱਗੇ ਦਿੱਤੇ ਸਵਾਲ ਦਾ ਜਵਾਬ ਦਿਓ। ਗਿਣਤੀ ਸਿਰਫ਼ ਖੱਬੇ ਤੋਂ ਸੱਜੇ ਕੀਤੀ
4 ਜਾਣੀ ਹੈ।
(ਖੱਬੇ) A @ % X N F L D + R & Y G F Z V \$ # M P I H (ਸੱਜੇ)
ਅਜਿਹੇ ਕਿੰਨੇ ਅੱਖਰ ਹਨ ਜਿਨ੍ਹਾਂ ਤੋਂ ਠੀਕ ਬਾਅਦ ਸਿਰਫ਼ ਇੱਕ ਚਿੰਨ੍ਹ ਆਉਂਦਾ ਹੈ?

- Ans 1. ਪੰਜ
 2. ਛੇ
 3. ਤਿੰਨ
 4. ਚਾਰ

Question ID : 44100984660

Option 1 ID : 441009336408

Option 2 ID : 441009336409

Option 3 ID : 441009336406

Option 4 ID : 441009336407

Status : Answered

Chosen Option : 4

Q.6 ਦਿੱਤੀ ਗਈ ਲੜੀ ਵਿੱਚ ਪ੍ਰਸ਼ਨ ਚਿੰਨ੍ਹ (?) ਦੀ ਥਾਂ 'ਤੇ ਕੀ ਆਉਣਾ ਚਾਹੀਦਾ ਹੈ?

17 21.2 25.4 29.6 33.8 ?

- Ans 1. 36.2
 2. 36
 3. 37.2
 4. 38

Question ID : 44100989891

Option 1 ID : 441009357729

Option 2 ID : 441009357728

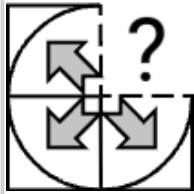
Option 3 ID : 441009357727

Option 4 ID : 441009357726

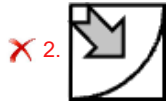
Status : Answered

Chosen Option : 4

Q.6 ਪੈਟਰਨ ਨੂੰ ਪੂਰਾ ਕਰਨ ਲਈ ਹੇਠਾਂ ਦਿੱਤੇ ਚਿੱਤਰ ਵਿੱਚ ਪ੍ਰਸ਼ਨ ਚਿੰਨ੍ਹ (?) ਦੀ ਥਾਂ ਲੈਣ ਵਾਲੇ ਵਿਕਲਪ ਚਿੱਤਰ ਦੀ ਚੋਣ ਕਰੋ।



Ans



Question ID :	441009114837
Option 1 ID :	441009456754
Option 2 ID :	441009456752
Option 3 ID :	441009456753
Option 4 ID :	441009456755
Status :	Answered
Chosen Option :	3

Q.6 ਦਿੱਤੀ ਗਈ ਲੜੀ ਵਿੱਚ ਪ੍ਰਸ਼ਨ ਚਿੰਨ੍ਹ (?) ਦੀ ਥਾਂ ਕੀ ਆਉਣਾ ਚਾਹੀਦਾ ਹੈ?

7
158 140 124 110 98 ?

Ans

✓ 1. 88

✗ 2. 94

✗ 3. 82

✗ 4. 78

Question ID :	44100989198
Option 1 ID :	441009354940
Option 2 ID :	441009354939
Option 3 ID :	441009354941
Option 4 ID :	441009354942
Status :	Answered
Chosen Option :	1

Q.6 ਇੱਕ ਖਾਸ ਕੋਡ ਭਾਸ਼ਾ ਵਿੱਚ,
8 'A + B' ਦਾ ਅਰਥ ਹੈ 'A, B ਦਾ ਪੁੱਤਰ ਹੈ',
'A - B' ਦਾ ਅਰਥ ਹੈ 'A, B ਦੀ ਮਾਂ ਹੈ',
'A × B' ਦਾ ਅਰਥ ਹੈ 'A, B ਦੀ ਭੈਣ ਹੈ' ਅਤੇ
'A ÷ B' ਦਾ ਅਰਥ ਹੈ 'A, B ਦਾ ਪਿਤਾ ਹੈ'।

ਜੇਕਰ 'E × F + G - H' ਹੈ ਤਾਂ E ਦਾ H ਨਾਲ ਕੀ ਸਬੰਧ ਹੈ?

Ans 1. ਭੈਣ

2. ਪਿਤਾ

3. ਮਾਂ

4. ਭਰਾ

Question ID : 44100999483

Option 1 ID : 441009395875

Option 2 ID : 441009395876

Option 3 ID : 441009395873

Option 4 ID : 441009395874

Status : Answered

Chosen Option : 1

Q.6 Refer to the following number and symbol series and answer the question that follows.
9 All numbers are single-digit numbers. Counting to be done from left to right only.

(Left) 6 % 1 9 2 \$ % > 6 < & & + 1 > 5 * < 6 2 @ (Right)

If all the symbols are dropped from the series, which of the following will be seventh from the left?

Ans 1. 2

2. 6

3. 5

4. 1

Question ID : 44100988857

Option 1 ID : 441009353426

Option 2 ID : 441009353425

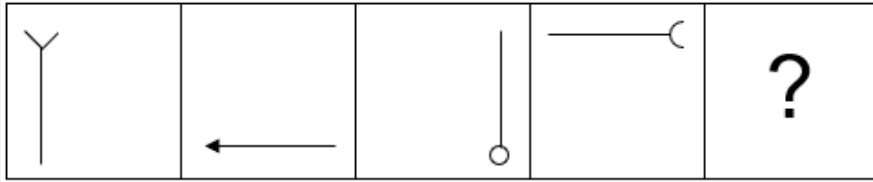
Option 3 ID : 441009353424

Option 4 ID : 441009353423

Status : Answered

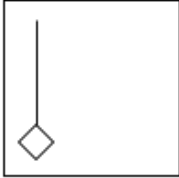
Chosen Option : 3

Q.7 ਵਿਕਲਪਾਂ ਵਿੱਚ ਦਿੱਤੀ ਗਈ ਆਕ੍ਰਿਤੀ ਦੀ ਪਛਾਣ ਕਰੋ ਜਿਸਨੂੰ ਪ੍ਰਸ਼ਨ ਚਿੰਨ੍ਹ (?) ਦੀ ਥਾਂ 'ਤੇ ਰੱਖਣ 'ਤੇ ਲੜੀ
0 ਤਰਕਪੂਰਨ ਤੌਰ 'ਤੇ ਪੂਰੀ ਹੋ ਜਾਵੇਗੀ।

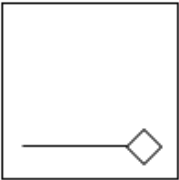


Ans

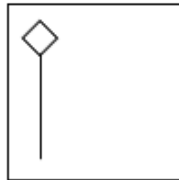
✗ 1.



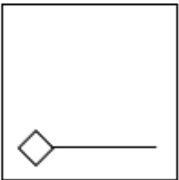
✗ 2.



✓ 3.



✗ 4.



Question ID :	441009103589
Option 1 ID :	441009462480
Option 2 ID :	441009462481
Option 3 ID :	441009462482
Option 4 ID :	441009462483
Status :	Answered
Chosen Option :	3

Q.7 1 ਰੇਠਾਂ ਦਿੱਤੀ ਸੰਖਿਆ, ਚਿੰਨ੍ਹ ਲੜੀ ਦਾ ਸੰਦਰਭ ਲਓ ਅਤੇ ਪ੍ਰਸ਼ਨ ਦਾ ਉੱਤਰ ਦਿਓ। ਗਿਣਤੀ ਕੇਵਲ ਖੱਬੇ ਤੋਂ ਸੱਜੇ ਕਰਨੀ ਹੈ।

(ਖੱਬੇ) Q @ S C # D R T % Y U ~ & H G £ F B (ਸੱਜੇ)

ਲੜੀ ਵਿੱਚ ਕਿੰਨੇ ਅੱਖਰਾਂ ਦੇ ਠੀਕ ਬਾਅਦ ਇੱਕ ਚਿੰਨ੍ਹ ਆਉਂਦਾ ਹੈ??

Ans 1. ਚਾਰ

2. ਪੰਜ

3. ਛੇ

4. ਤਿੰਨ

Question ID : 44100984602

Option 1 ID : 441009336238

Option 2 ID : 441009336241

Option 3 ID : 441009336240

Option 4 ID : 441009336239

Status : Answered

Chosen Option : 2

Q.7 2 Read the given statements and conclusions carefully. Assuming that the information given in the statements is true, even if it appears to be at variance with commonly known facts, decide which of the given conclusion(s) logically follow(s) from the statements.

Statements:

Some pots are mugs.
Some bowls are mugs.

Conclusions:

(I) Some bowls are pots.
(II) All pots are bowls.

Ans 1. Neither conclusion (I) nor (II) follows.

2. Only conclusion (I) follows.

3. Only conclusion (II) follows.

4. Both conclusions (I) and (II) follow.

Question ID : 44100994855

Option 1 ID : 441009377420

Option 2 ID : 441009377418

Option 3 ID : 441009377419

Option 4 ID : 441009377421

Status : Answered

Chosen Option : 1

Q.7 ਅੰਗਰੇਜ਼ੀ ਵਰਣਮਾਲਾ ਕ੍ਰਮ ਦੇ ਆਧਾਰ 'ਤੇ ਦਿੱਤੀ ਗਈ ਲੜੀ ਵਿੱਚ ਪ੍ਰਸ਼ਨ ਚਿੰਨ੍ਹ (?) ਦੀ ਥਾਂ 'ਤੇ ਕੀ ਆਉਣਾ ਚਾਹੀਦਾ ਹੈ?

IV HW GX FY ?

Ans 1. EY

2. EZ

3. FZ

4. FY

Question ID : 44100988910

Option 1 ID : 441009353634

Option 2 ID : 441009353631

Option 3 ID : 441009353633

Option 4 ID : 441009353632

Status : Answered

Chosen Option : 2

Q.7 ਇੱਕ ਖਾਸ ਕੋਡ ਭਾਸ਼ਾ ਵਿੱਚ,
4 $A + B$ ਦਾ ਅਰਥ ਹੈ 'A, B ਦੀ ਮਾਤਾ ਹੈ',
 $A - B$ ਦਾ ਅਰਥ ਹੈ 'A, B ਦਾ ਭਰਾ ਹੈ',
 $A \times B$ ਦਾ ਅਰਥ ਹੈ 'A, B ਦਾ ਪਤੀ ਹੈ' ਅਤੇ
 $A \div B$ ਦਾ ਅਰਥ ਹੈ 'A, B ਦਾ ਪਿਤਾ ਹੈ'।

ਉਪਰੋਕਤ ਦੇ ਆਧਾਰ 'ਤੇ, ਜੇਕਰ ' $J \times K + L - M$ ' ਹੈ ਤਾਂ J ਦਾ M ਨਾਲ ਕੀ ਸੰਬੰਧ ਹੈ?

Ans 1. ਭੈਣ

2. ਮਾਤਾ

3. ਭਰਾ

4. ਪਿਤਾ

Question ID : 44100987300

Option 1 ID : 441009346992

Option 2 ID : 441009346991

Option 3 ID : 441009346994

Option 4 ID : 441009346993

Status : Answered

Chosen Option : 4

Q.7
5 Two sets of numbers are given below. In each set of numbers, certain mathematical operation(s) on the first number result(s) in the second number. Similarly, certain mathematical operation(s) on the second number result(s) in the third number and so on. Which of the given options follows the same set of operations as in the given sets? (NOTE: Operations should be performed on the whole numbers, without breaking down the numbers into their constituent digits. E.g. 13 – Operations on 13 such as adding/subtracting/multiplying to 13 can be performed. Breaking down 13 into 1 and 3 and then performing mathematical operations on 1 and 3 is not allowed.)
88 – 44 – 36 ; 42 – 21 – 13

Ans 1. 62 – 32 – 26

2. 50 – 25 – 17

3. 36 – 16 – 8

4. 56 – 28 – 22

Question ID : 44100988350

Option 1 ID : 441009351449

Option 2 ID : 441009351448

Option 3 ID : 441009351450

Option 4 ID : 441009351447

Status : Answered

Chosen Option : 2

Section : English Language Skills and Punjabi Language Skills

Q.7
6 ਪੰਜਾਬੀ ਵਿੱਚ ਦਿੱਤੇ ਗਏ ਵਾਕ ਦਾ ਅੰਗਰੇਜ਼ੀ ਵਿੱਚ ਅਨੁਵਾਦ ਕਰੋ।
ਪਾਣੀ, ਧਰਤੀ ਦੇ ਸਭ ਤੋਂ ਵੱਧ ਮਹੱਤਵਪੂਰਨ ਤੱਤਾਂ ਵਿੱਚੋਂ ਇੱਕ ਹੈ।

Ans 1. Water is more important substance of the soil.

2. Water is most important material of earth.

3. Water is one of the most important elements of the earth.

4. Water is one of the most important earth of the elements.

Question ID : 441009332927

Option 1 ID : 4410091297697

Option 2 ID : 4410091297695

Option 3 ID : 4410091297698

Option 4 ID : 4410091297696

Status : Answered

Chosen Option : 3

Q.7 Select the most appropriate synonym of the given word.

7

Barbaric

Ans 1. Brutal

2. Cursive

3. Acerbic

4. Scenic

Question ID : 441009109255

Option 1 ID : 441009434747

Option 2 ID : 441009434746

Option 3 ID : 441009434744

Option 4 ID : 441009434745

Status : Answered

Chosen Option : 3

Q.7 ਹੇਠ ਦਿੱਤੇ ਵਾਕ ਲਈ ਸਭ ਤੋਂ ਸਹੀ ਅੰਗਰੇਜ਼ੀ ਅਨੁਵਾਦ ਚੁਣੋ:

8

Punjabi Sentence: ਜਦ ਤੱਕ ਮੈਨੂੰ ਤੁਹਾਡੀ ਚਿੱਠੀ ਨਹੀਂ ਮਿਲਦੀ, ਮੈਂ ਉਤਤਰ ਨਹੀਂ ਦੇਵਾਂਗਾ।

Ans 1. If I get your message, I may not write anything.

2. I will only answer you after reading the newspaper.

3. I will give your letter to someone else as a reply.

4. Until I get your letter, I will not give an answer.

Question ID : 441009318296

Option 1 ID : 4410091239596

Option 2 ID : 4410091239593

Option 3 ID : 4410091239595

Option 4 ID : 4410091239594

Status : Answered

Chosen Option : 4

Q.7 Select the most appropriate option to fill in the blank.

9

He accused me _____ cheating.

Ans 1. at

2. in

3. on

4. of

Question ID : 441009104513

Option 1 ID : 441009416239

Option 2 ID : 441009416240

Option 3 ID : 441009416241

Option 4 ID : 441009416242

Status : Answered

Chosen Option : 4

Q.8 Sentences of a paragraph are given below in jumbled order. Arrange the sentences in the correct order to form a meaningful and coherent paragraph.

- A) Despite the common name 'tiger', the thylacine had a shy, nervous temperament.
- B) During long-distance chases, thylacines were likely to have relied more on scent than any other sense.
- C) They emerged to hunt during the evening, night and early morning and tended to retreat to the hills and forest for shelter during the day.
- D) The thylacine was not a fast runner and probably caught its prey by exhausting it during a long pursuit.

- Ans**
- 1. CABD
 - 2. BCDA
 - 3. CADB
 - 4. DBCA

Question ID :	441009103395
Option 1 ID :	441009411742
Option 2 ID :	441009411741
Option 3 ID :	441009411739
Option 4 ID :	441009411740
Status :	Answered
Chosen Option :	4

Q.8 Select the option that can be used as a one-word substitute for the underlined group of words in the given sentence.

The cat cut and damaged the surface of the boy's hand when he tried to steal its kitten.

- Ans**
- 1. stroked
 - 2. flipped
 - 3. scratched
 - 4. touched

Question ID :	441009106372
Option 1 ID :	441009423513
Option 2 ID :	441009423512
Option 3 ID :	441009423514
Option 4 ID :	441009423511
Status :	Answered
Chosen Option :	3

Q.8	Select the INCORRECTLY spelt word.
2	
Ans	✓ 1. Pittanse
	✗ 2. Responsible
	✗ 3. Triangular
	✗ 4. Comfortable

Question ID :	441009110161
Option 1 ID :	441009438217
Option 2 ID :	441009438218
Option 3 ID :	441009438216
Option 4 ID :	441009438219
Status :	Answered
Chosen Option :	1

Comprehension:
Read the given passage and answer the questions that follow.
<p>Mahatma Gandhi, known as the Father of the Nation, played a pivotal role in India's struggle for freedom through his philosophy of non-violence and truth. His life was marked by numerous events that shaped the course of India's history. One such important moment took place in February 1916. In February 1916, Mahatma Gandhi was invited to speak at the foundation-laying ceremony of the Banaras Hindu University (BHU). The event was attended by prominent figures, including Viceroy Lord Hardinge and various Indian princes. Gandhiji, dressed in a simple Kathiawadi cloak and turban, was deeply disturbed by the opulence and heavy security surrounding the event. In his speech, he expressed his discomfort at addressing his fellow countrymen in English, a language foreign to him and criticised the extravagance of the Indian nobility amidst widespread poverty. He emphasised the need for education in vernacular languages and highlighted the plight of Indian farmers, stating that true self-governance could only be achieved by uplifting the rural populace. Gandhiji's candid remarks, especially in the presence of British officials and Indian elites, marked a significant moment in India's struggle for independence, showcasing his commitment to truth and social justice.</p>

SubQuestion No : 83	
Q.8	What central theme did Gandhiji emphasise in his BHU speech?
3	
Ans	✓ 1. The significance of rural upliftment and vernacular education
	✗ 2. The need for military strength
	✗ 3. The importance of industrialisation
	✗ 4. The benefits of British rule

Question ID :	441009178012
Option 1 ID :	441009703739
Option 2 ID :	441009703738
Option 3 ID :	441009703737
Option 4 ID :	441009703740
Status :	Answered
Chosen Option :	1

Comprehension:

Read the given passage and answer the questions that follow.

Mahatma Gandhi, known as the Father of the Nation, played a pivotal role in India's struggle for freedom through his philosophy of non-violence and truth. His life was marked by numerous events that shaped the course of India's history. One such important moment took place in February 1916. In February 1916, Mahatma Gandhi was invited to speak at the foundation-laying ceremony of the Banaras Hindu University (BHU). The event was attended by prominent figures, including Viceroy Lord Hardinge and various Indian princes. Gandhiji, dressed in a simple Kathiawadi cloak and turban, was deeply disturbed by the opulence and heavy security surrounding the event. In his speech, he expressed his discomfort at addressing his fellow countrymen in English, a language foreign to him and criticised the extravagance of the Indian nobility amidst widespread poverty. He emphasised the need for education in vernacular languages and highlighted the plight of Indian farmers, stating that true self-governance could only be achieved by uplifting the rural populace. Gandhiji's candid remarks, especially in the presence of British officials and Indian elites, marked a significant moment in India's struggle for independence, showcasing his commitment to truth and social justice.

SubQuestion No : 84

Q.8 Why did Gandhiji criticise the use of the English language in his speech?
4

Ans ✓ 1. He believed it was a colonial imposition.

✗ 2. He wanted to promote French instead.

✗ 3. He found it difficult to speak in English.

✗ 4. He was unaware of the English language.

Question ID :	441009178014
Option 1 ID :	441009703745
Option 2 ID :	441009703747
Option 3 ID :	441009703746
Option 4 ID :	441009703748
Status :	Answered
Chosen Option :	3

Adda247

Comprehension:

Read the given passage and answer the questions that follow.

Mahatma Gandhi, known as the Father of the Nation, played a pivotal role in India's struggle for freedom through his philosophy of non-violence and truth. His life was marked by numerous events that shaped the course of India's history. One such important moment took place in February 1916. In February 1916, Mahatma Gandhi was invited to speak at the foundation-laying ceremony of the Banaras Hindu University (BHU). The event was attended by prominent figures, including Viceroy Lord Hardinge and various Indian princes. Gandhiji, dressed in a simple Kathiawadi cloak and turban, was deeply disturbed by the opulence and heavy security surrounding the event. In his speech, he expressed his discomfort at addressing his fellow countrymen in English, a language foreign to him and criticised the extravagance of the Indian nobility amidst widespread poverty. He emphasised the need for education in vernacular languages and highlighted the plight of Indian farmers, stating that true self-governance could only be achieved by uplifting the rural populace. Gandhiji's candid remarks, especially in the presence of British officials and Indian elites, marked a significant moment in India's struggle for independence, showcasing his commitment to truth and social justice.

SubQuestion No : 85

Q.8 What was the occasion for Gandhiji's speech at BHU in 1916?
5

- Ans**
- 1. Independence Day celebrations
 - 2. Annual Convocation of BHU
 - 3. Foundation-laying ceremony of BHU
 - 4. Inauguration of a new library at BHU

Question ID : 441009178013

Option 1 ID : 441009703741

Option 2 ID : 441009703743

Option 3 ID : 441009703742

Option 4 ID : 441009703744

Status : Answered

Chosen Option : 3

Q.8 "In a nutshell" ਦਾ ਪੰਜਾਬੀ ਅਨੁਵਾਦ ਚੁਣੋ।
6

- Ans**
- 1. ਖੋਲ੍ਹ ਕੇ
 - 2. ਵਿਸਥਾਰ ਵਿੱਚ
 - 3. ਸੰਖੇਪ ਵਿੱਚ
 - 4. ਵੇਰਵਿਆਂ ਨਾਲ

Question ID : 441009303652

Option 1 ID : 4410091181237

Option 2 ID : 4410091181235

Option 3 ID : 4410091181234

Option 4 ID : 4410091181236

Status : Answered

Chosen Option : 3

Q.8 'ਇਕਰਾਰ' ਸ਼ਬਦ ਦਾ ਸਮਾਨਾਰਥੀ ਸ਼ਬਦ ਹੈ।

7

- Ans
- 1. ਇੱਜ਼ਤ
 - 2. ਮਾਣ
 - 3. ਕੌਲ
 - 4. ਚਾਹਤ

Question ID : 441009144098

Option 1 ID : 441009572387

Option 2 ID : 441009572385

Option 3 ID : 441009572388

Option 4 ID : 441009572386

Status : Answered

Chosen Option : 3

Q.8 ਜਿਸਦਾ ਪਤੀ ਮਰ ਗਿਆ ਹੋਵੇ ਨੂੰ ਕੀ ਕਹਿੰਦੇ ਹਨ?

8

- Ans
- 1. ਵਿਧਵਾ
 - 2. ਸੌਕਣ
 - 3. ਬਾਲ ਵਿਧਵਾ
 - 4. ਆਕੀ

Question ID : 441009137883

Option 1 ID : 441009547752

Option 2 ID : 441009547755

Option 3 ID : 441009547753

Option 4 ID : 441009547754

Status : Answered

Chosen Option : 1

Q.8 ਹੇਠ ਲਿਖੇ ਵਿਕਲਪਾਂ ਵਿੱਚੋਂ 'ਲੋਕ' ਸ਼ਬਦ ਦੇ ਸਹੀ ਵਿਰੋਧੀ ਸ਼ਬਦ ਦੀ ਚੋਣ ਕਰੋ:-

9

- Ans
- 1. ਜਗਤ
 - 2. ਪਰਲੋਕ
 - 3. ਸੰਸਾਰ
 - 4. ਦੁਨੀਆ

Question ID : 441009256647

Option 1 ID : 4410091000478

Option 2 ID : 4410091000480

Option 3 ID : 4410091000479

Option 4 ID : 4410091000477

Status : Answered

Chosen Option : 2

Q.9 ਦਿੱਤੇ ਗਏ ਵਾਕਾਂ ਵਿੱਚੋਂ ਕਿਹੜੇ ਵਾਕ ਵਿੱਚ, ਸਭ ਤੋਂ ਸਹੀ ਵਿਸ਼ਰਾਮ ਚਿੰਨ੍ਹ ਵਰਤੇ ਗਏ ਹਨ?

- 0
- Ans
- ✗ 1. "ਕੀ ਤੁਸੀਂ ਆ ਰਹੇ ਹੋ!" ਉਸਨੇ ਪੁੱਛਿਆ।
- ✗ 2. "ਕੀ ਤੁਸੀਂ ਆ ਰਹੇ ਹੋ" ਉਸਨੇ ਪੁੱਛਿਆ।
- ✗ 3. "ਕੀ ਤੁਸੀਂ ਆ ਰਹੇ ਹੋ," ਉਸਨੇ ਪੁੱਛਿਆ।
- ✓ 4. "ਕੀ ਤੁਸੀਂ ਆ ਰਹੇ ਹੋ?" ਉਸਨੇ ਪੁੱਛਿਆ।

Question ID : 441009329236

Option 1 ID : 4410091283344

Option 2 ID : 4410091283345

Option 3 ID : 4410091283347

Option 4 ID : 4410091283346

Status : Answered

Chosen Option : 4

Q.9 ਦੁੱਧ ਵਿੱਚ _____ ਪਾਉਣਾ ' ਮੁਹਾਵਰਾ ਪੂਰਾ ਕਰੋ।

- 1
- Ans
- ✗ 1. ਪਾਣੀ
- ✓ 2. ਮੋਗਣਾ
- ✗ 3. ਮਿੱਟੀ
- ✗ 4. ਦਹੀ

Question ID : 441009256888

Option 1 ID : 4410091001419

Option 2 ID : 4410091001417

Option 3 ID : 4410091001418

Option 4 ID : 4410091001420

Status : Answered

Chosen Option : 4

Q.9 ' ਸੁਲਾਹੁਣਾ ' ਸ਼ਬਦ ਦਾ ਹੇਠ ਲਿਖਿਆਂ ਵਿੱਚੋਂ ਵਿਰੋਧੀ ਸ਼ਬਦ ਹੈ:-

- 2
- Ans
- ✗ 1. ਪ੍ਰਗਟ
- ✗ 2. ਪ੍ਰਸ਼ਾਸਾ
- ✗ 3. ਤਾਰਿਫ਼
- ✓ 4. ਭੰਡਣਾ

Question ID : 441009256556

Option 1 ID : 4410091000119

Option 2 ID : 4410091000122

Option 3 ID : 4410091000121

Option 4 ID : 4410091000120

Status : Answered

Chosen Option : 4

Comprehension:

ਹੇਠ ਦਿੱਤਾ ਪੈਰਾ ਪੜ੍ਹੋ ਅਤੇ ਹੇਠਾਂ ਦਿੱਤੇ ਸਵਾਲਾਂ ਦੇ ਜਵਾਬ ਦਿਓ।

ਪਰਿਵਾਰ ਮਨੁੱਖ ਦਾ ਪਹਿਲਾ ਸਕੂਲ ਹੁੰਦਾ ਹੈ। ਇੱਥੇ ਹੀ ਬੱਚਾ ਸਭ ਤੋਂ ਪਹਿਲਾਂ ਪਿਆਰ, ਸੰਜੋਗ, ਸਹਿਯੋਗ, ਆਦਰ ਅਤੇ ਸੰਸਕਾਰ ਸਿੱਖਦਾ ਹੈ। ਪਰਿਵਾਰ ਦੇ ਮੈਂਬਰ, ਇਕ-ਦੂਜੇ ਲਈ ਸਮਰਪਿਤ ਰਹਿੰਦੇ ਹਨ। ਜੇਕਰ ਪਰਿਵਾਰ ਵਿੱਚ ਏਕਤਾ ਅਤੇ ਸਨੇਹ ਹੋਵੇ ਤਾਂ ਕੋਈ ਵੀ ਮੁਸ਼ਕਲ ਜੀਵਨ ਵਿੱਚ ਰੁਕਾਵਟ ਨਹੀਂ ਬਣਦੀ। ਮਨੁੱਖ ਦੀ ਖੁਸ਼ੀ, ਉੱਗਰਣ ਅਤੇ ਸੰਤੁਲਨ ਵਿੱਚ ਪਰਿਵਾਰ ਦਾ ਵੱਡਾ ਯੋਗਦਾਨ ਹੁੰਦਾ ਹੈ। ਅਜਿਹੇ ਸਮੇਂ ਵਿੱਚ ਜਦੋਂ ਲੋਕ ਆਪਣੇ-ਆਪਣੇ ਕੰਮਾਂ ਵਿੱਚ ਵਿਅਸਤ ਹੋ ਗਏ ਹਨ, ਪਰਿਵਾਰ ਨਾਲ ਸਮਾਂ ਬਿਤਾਉਣਾ ਔਖਾ ਹੋ ਗਿਆ ਹੈ। ਪਰ, ਇਹ ਵੀ ਸੱਚ ਹੈ ਕਿ ਪਰਿਵਾਰ ਦੀ ਕਦਰ ਉਹੀ ਵਿਅਕਤੀ ਕਰਦਾ ਹੈ, ਜੋ ਇਸ ਦੀ ਅਹਿਮੀਅਤ ਨੂੰ ਸਮਝਦਾ ਹੈ। ਪਰਿਵਾਰ, ਸਿਰਫ਼ ਸਰੀਰਕ ਸਾਥ ਨਹੀਂ, ਸਗੋਂ ਮਾਨਸਿਕ ਸੰਤੁਲਨ ਅਤੇ ਆਤਮਿਕ ਸਾਂਤੀ ਵੀ ਦਿੰਦਾ ਹੈ। ਇਹੀ ਕਾਰਨ ਹੈ ਕਿ ਮਨੁੱਖ, ਦੁਨੀਆ ਦੀ ਹਰੇਕ ਵੱਡੀ ਖੁਸ਼ੀ ਤੋਂ ਪਹਿਲਾਂ ਪਰਿਵਾਰ ਦੀ ਖੁਸ਼ੀ ਨੂੰ ਮਹੱਤਵ ਦਿੰਦਾ ਹੈ।

SubQuestion No : 93**Q.9**
3 ਉਪਰੋਕਤ ਪੈਰੇ ਦਾ ਢੁਕਵਾਂ ਸਿਰਲੇਖ ਚੁਣੋ।

- Ans
1. ਪਰਿਵਾਰ ਦੀ ਮਹੱਤਤਾ
2. ਤਕਨੀਕ
3. ਆਦਰ ਤੇ ਸਨੇਹ
4. ਸੰਸਕਾਰ ਤੇ ਪਿਆਰ

Question ID : 441009309703

Option 1 ID : 4410091205346

Option 2 ID : 4410091205344

Option 3 ID : 4410091205347

Option 4 ID : 4410091205345

Status : Answered

Chosen Option : 1

Comprehension:

ਹੇਠ ਦਿੱਤਾ ਪੈਰਾ ਪੜ੍ਹੋ ਅਤੇ ਹੇਠਾਂ ਦਿੱਤੇ ਸਵਾਲਾਂ ਦੇ ਜਵਾਬ ਦਿਓ।

ਪਰਿਵਾਰ ਮਨੁੱਖ ਦਾ ਪਹਿਲਾ ਸਕੂਲ ਹੁੰਦਾ ਹੈ। ਇੱਥੇ ਹੀ ਬੱਚਾ ਸਭ ਤੋਂ ਪਹਿਲਾਂ ਪਿਆਰ, ਸੰਜੋਗ, ਸਹਿਯੋਗ, ਆਦਰ ਅਤੇ ਸੰਸਕਾਰ ਸਿੱਖਦਾ ਹੈ। ਪਰਿਵਾਰ ਦੇ ਮੈਂਬਰ, ਇਕ-ਦੂਜੇ ਲਈ ਸਮਰਪਿਤ ਰਹਿੰਦੇ ਹਨ। ਜੇਕਰ ਪਰਿਵਾਰ ਵਿੱਚ ਏਕਤਾ ਅਤੇ ਸਨੇਹ ਹੋਵੇ ਤਾਂ ਕੋਈ ਵੀ ਮੁਸ਼ਕਲ ਜੀਵਨ ਵਿੱਚ ਰੁਕਾਵਟ ਨਹੀਂ ਬਣਦੀ। ਮਨੁੱਖ ਦੀ ਖੁਸ਼ੀ, ਉੱਗਰਣ ਅਤੇ ਸੰਤੁਲਨ ਵਿੱਚ ਪਰਿਵਾਰ ਦਾ ਵੱਡਾ ਯੋਗਦਾਨ ਹੁੰਦਾ ਹੈ। ਅਜਿਹੇ ਸਮੇਂ ਵਿੱਚ ਜਦੋਂ ਲੋਕ ਆਪਣੇ-ਆਪਣੇ ਕੰਮਾਂ ਵਿੱਚ ਵਿਅਸਤ ਹੋ ਗਏ ਹਨ, ਪਰਿਵਾਰ ਨਾਲ ਸਮਾਂ ਬਿਤਾਉਣਾ ਔਖਾ ਹੋ ਗਿਆ ਹੈ। ਪਰ, ਇਹ ਵੀ ਸੱਚ ਹੈ ਕਿ ਪਰਿਵਾਰ ਦੀ ਕਦਰ ਉਹੀ ਵਿਅਕਤੀ ਕਰਦਾ ਹੈ, ਜੋ ਇਸ ਦੀ ਅਹਿਮੀਅਤ ਨੂੰ ਸਮਝਦਾ ਹੈ। ਪਰਿਵਾਰ, ਸਿਰਫ਼ ਸਰੀਰਕ ਸਾਥ ਨਹੀਂ, ਸਗੋਂ ਮਾਨਸਿਕ ਸੰਤੁਲਨ ਅਤੇ ਆਤਮਿਕ ਸਾਂਤੀ ਵੀ ਦਿੰਦਾ ਹੈ। ਇਹੀ ਕਾਰਨ ਹੈ ਕਿ ਮਨੁੱਖ, ਦੁਨੀਆ ਦੀ ਹਰੇਕ ਵੱਡੀ ਖੁਸ਼ੀ ਤੋਂ ਪਹਿਲਾਂ ਪਰਿਵਾਰ ਦੀ ਖੁਸ਼ੀ ਨੂੰ ਮਹੱਤਵ ਦਿੰਦਾ ਹੈ।

SubQuestion No : 94**Q.9**
4 ਪਰਿਵਾਰ, ਮਨੁੱਖ ਲਈ ਕੀ ਹੁੰਦਾ ਹੈ?

- Ans
1. ਪਹਿਲਾ ਸਕੂਲ
2. ਦੇਸ਼ੀ ਦਾ ਮਾਰਗ
3. ਮੌਜ-ਮਸਤੀ ਦਾ ਕੇਂਦਰ
4. ਕੰਮ ਕਰਨ ਦੀ ਥਾਂ

Question ID : 441009309700

Option 1 ID : 4410091205332

Option 2 ID : 4410091205335

Option 3 ID : 4410091205333

Option 4 ID : 4410091205334

Status : Answered

Chosen Option : 1

Comprehension:

ਹੇਠ ਦਿੱਤਾ ਪੈਰਾ ਪੜ੍ਹੋ ਅਤੇ ਹੇਠਾਂ ਦਿੱਤੇ ਸਵਾਲਾਂ ਦੇ ਜਵਾਬ ਦਿਓ।

ਪਰਿਵਾਰ ਮਨੁੱਖ ਦਾ ਪਹਿਲਾ ਸਕੂਲ ਹੁੰਦਾ ਹੈ। ਇੱਥੇ ਹੀ ਬੱਚਾ ਸਭ ਤੋਂ ਪਹਿਲਾਂ ਪਿਆਰ, ਸੰਜੋਗ, ਸਹਿਯੋਗ, ਆਦਰ ਅਤੇ ਸੰਸਕਾਰ ਸਿੱਖਦਾ ਹੈ। ਪਰਿਵਾਰ ਦੇ ਮੈਂਬਰ, ਇਕ-ਦੂਜੇ ਲਈ ਸਮਰਪਿਤ ਰਹਿੰਦੇ ਹਨ। ਜੇਕਰ ਪਰਿਵਾਰ ਵਿੱਚ ਏਕਤਾ ਅਤੇ ਸਨੇਹ ਹੋਵੇ ਤਾਂ ਕੋਈ ਵੀ ਮੁਸ਼ਕਲ ਜੀਵਨ ਵਿੱਚ ਰੁਕਾਵਟ ਨਹੀਂ ਬਣਦੀ। ਮਨੁੱਖ ਦੀ ਖੁਸ਼ੀ, ਉੱਗਰਣ ਅਤੇ ਸੰਤੁਲਨ ਵਿੱਚ ਪਰਿਵਾਰ ਦਾ ਵੱਡਾ ਯੋਗਦਾਨ ਹੁੰਦਾ ਹੈ। ਅਜਿਹੇ ਸਮੇਂ ਵਿੱਚ ਜਦੋਂ ਲੋਕ ਆਪਣੇ-ਆਪਣੇ ਕੰਮਾਂ ਵਿੱਚ ਵਿਅਸਤ ਹੋ ਗਏ ਹਨ, ਪਰਿਵਾਰ ਨਾਲ ਸਮਾਂ ਬਿਤਾਉਣਾ ਔਖਾ ਹੋ ਗਿਆ ਹੈ। ਪਰ, ਇਹ ਵੀ ਸੱਚ ਹੈ ਕਿ ਪਰਿਵਾਰ ਦੀ ਕਦਰ ਉਹੀ ਵਿਅਕਤੀ ਕਰਦਾ ਹੈ, ਜੋ ਇਸ ਦੀ ਅਹਿਮੀਅਤ ਨੂੰ ਸਮਝਦਾ ਹੈ। ਪਰਿਵਾਰ, ਸਿਰਫ਼ ਸਰੀਰਕ ਸਾਥ ਨਹੀਂ, ਸਗੋਂ ਮਾਨਸਿਕ ਸੰਤੁਲਨ ਅਤੇ ਆਤਮਿਕ ਸਾਂਤੀ ਵੀ ਦਿੰਦਾ ਹੈ। ਇਹੀ ਕਾਰਨ ਹੈ ਕਿ ਮਨੁੱਖ, ਦੁਨੀਆ ਦੀ ਹਰੇਕ ਵੱਡੀ ਖੁਸ਼ੀ ਤੋਂ ਪਹਿਲਾਂ ਪਰਿਵਾਰ ਦੀ ਖੁਸ਼ੀ ਨੂੰ ਮਹੱਤਵ ਦਿੰਦਾ ਹੈ।

SubQuestion No : 95

Q.9 ਪਰਿਵਾਰ, ਮਨੁੱਖ ਨੂੰ ਕੀ ਦਿੰਦਾ ਹੈ?
5

Ans ✓ 1. ਮਾਨਸਿਕ ਸੰਤੁਲਨ

✗ 2. ਨੌਕਰੀ

✗ 3. ਤਨਾਅ

✗ 4. ਧਨ

Question ID : 441009309701

Option 1 ID : 4410091205337

Option 2 ID : 4410091205339

Option 3 ID : 4410091205338

Option 4 ID : 4410091205336

Status : Answered

Chosen Option : 1

Section : Digital Literacy and Awareness

Q.9 Which of the following is NOT a primary application of computers?
6

Ans ✗ 1. Online Banking – Enabling digital transactions, fraud detection and account management

✓ 2. Manual Brick Laying – Physically placing bricks in construction without automation

✗ 3. Gaming – Powering immersive video games with AI and graphics rendering

✗ 4. Weather Forecasting – Analysing climate data to predict storms and natural disasters

Question ID : 44100990020

Option 1 ID : 441009358255

Option 2 ID : 441009358256

Option 3 ID : 441009358257

Option 4 ID : 441009358254

Status : Answered

Chosen Option : 2

Q.9 7	Which of the following is a characteristic of the World Wide Web?
Ans	<input checked="" type="checkbox"/> 1. It is the same as the internet. <input checked="" type="checkbox"/> 2. It is a physical network of computers. <input checked="" type="checkbox"/> 3. It is an application layer that uses the internet infrastructure. <input checked="" type="checkbox"/> 4. It is a collection of interconnected networks.

Question ID :	441009134980
Option 1 ID :	441009536556
Option 2 ID :	441009536559
Option 3 ID :	441009536558
Option 4 ID :	441009536557
Status :	Answered
Chosen Option :	4

Q.9 8	Which of the following best describes the fundamental operational principle that underpins the majority of modern digital computers?
Ans	<input checked="" type="checkbox"/> 1. Quantum superposition for parallel processing <input checked="" type="checkbox"/> 2. Ternary logic gates for efficient data encoding <input checked="" type="checkbox"/> 3. Analog computation based on continuous electrical signals <input checked="" type="checkbox"/> 4. Binary representation and Boolean logic for information processing

Question ID :	441009134049
Option 1 ID :	441009532870
Option 2 ID :	441009532872
Option 3 ID :	441009532869
Option 4 ID :	441009532871
Status :	Answered
Chosen Option :	1

Q.9 9	Which feature in PowerPoint allows you to add notes that are visible to the presenter but not to the audience during a slide show?
Ans	<input checked="" type="checkbox"/> 1. Speaker Notes <input checked="" type="checkbox"/> 2. Annotations <input checked="" type="checkbox"/> 3. Hidden Slides <input checked="" type="checkbox"/> 4. Comments

Question ID :	441009134820
Option 1 ID :	441009535921
Option 2 ID :	441009535923
Option 3 ID :	441009535922
Option 4 ID :	441009535920
Status :	Answered
Chosen Option :	4

Q.1 Which MS Word feature allows you to quickly copy formatting attributes from one section of text to another?

Ans 1. Reveal Formatting pane

2. AutoFormat As You Type

3. Format Painter

4. Style Inspector

Question ID : 441009134409

Option 1 ID : 441009534309

Option 2 ID : 441009534306

Option 3 ID : 441009534307

Option 4 ID : 441009534308

Status : Answered

Chosen Option : 3

Section : Qualifying Paper of Punjabi Language

Q.1 ਹੇਠ ਦਿੱਤੇ ਸਵਾਲ ਵਿੱਚ, ਦਿੱਤੇ ਗਏ ਚਾਰ ਵਿਕਲਪਾਂ ਵਿੱਚੋਂ, ਉਹ ਵਿਕਲਪ ਚੁਣੋ ਜੋ ਮੁਹਾਵਰੇ ਦੇ ਅਰਥ ਨੂੰ ਸਭ ਤੋਂ ਵਧੀਆ ਢੰਗ ਨਾਲ ਪ੍ਰਗਟ ਕਰਦਾ ਹੈ।

ਕਾਰਜ ਰਾਸ ਕਰਨਾ

Ans 1. ਕੰਮ ਪੂਰਾ ਨਾ ਕਰਨਾ

2. ਧੋਖਾ ਮਿਲਣਾ

3. ਕਾਮਯਾਬੀ ਮਿਲਣੀ

4. ਅਸਫਲ ਹੋਣਾ

Question ID : 441009325080

Option 1 ID : 4410091266627

Option 2 ID : 4410091266629

Option 3 ID : 4410091266628

Option 4 ID : 4410091266626

Status : Answered

Chosen Option : 3

Q.2 ਦਿੱਤੇ ਗਏ ਸ਼ਬਦ ਦਾ ਸਭ ਤੋਂ ਢੁਕਵਾਂ ਸਮਾਨਾਰਥਕ ਸ਼ਬਦ ਚੁਣੋ।

ਫ਼ਿਕਰਮੰਦ

Ans 1. ਨਿਸ਼ਚਿੰਤ

2. ਪਰੇਸ਼ਾਨ

3. ਦੁਸ਼ਮਣ

4. ਲਾਪਰਵਾਹ

Question ID : 441009324838

Option 1 ID : 4410091265628

Option 2 ID : 4410091265629

Option 3 ID : 4410091265630

Option 4 ID : 4410091265627

Status : Answered

Chosen Option : 2

Q.3 ਹੇਠਾਂ ਲਿਖੇ ਅੰਗਰੇਜ਼ੀ ਸ਼ਬਦ ਦਾ ਸਹੀ ਪੰਜਾਬੀ ਰੂਪ ਚੁਣੋ:
Generosity

- Ans
- 1. ਬਹਾਦਰੀ
 - 2. ਸੁਰਬੀਰਤਾ
 - 3. ਉਦਾਰਤਾ
 - 4. ਸ਼ਿਕਾਇਤ

Question ID : 441009244474

Option 1 ID : 441009954678

Option 2 ID : 441009954677

Option 3 ID : 441009954676

Option 4 ID : 441009954679

Status : Answered

Chosen Option : 3

Q.4 'ਚੰਨ ਤੇ ਬੁੱਕਣਾ' ਮੁਹਾਵਰੇ ਦੇ ਸਹੀ ਅਰਥ ਦੱਸੋ?

- Ans
- 1. ਉੱਚੀ ਥਾਂ ਤੇ ਬੁੱਕਣਾ
 - 2. ਕੰਮ ਵਿਗਾੜ ਦੇਣਾ
 - 3. ਅਚਨਚੇਤ ਕਿਸੇ 'ਤੇ ਹਮਲਾ ਕਰਨਾ
 - 4. ਭਲੇਮਾਣਸ ਦੇ ਨੁਕਸ ਕੱਢਣੇ

Question ID : 441009148184

Option 1 ID : 441009588578

Option 2 ID : 441009588579

Option 3 ID : 441009588581

Option 4 ID : 441009588580

Status : Answered

Chosen Option : 4

Q.5 ਦਿੱਤੇ ਗਏ ਚਾਰਾਂ ਵਿਕਲਪਾਂ 'ਚੋਂ ਸ਼ੁੱਧ ਸ਼ਬਦ ਚੁਣੋ।

ਸੱਪੱਸ਼ਟ

- Ans
- 1. ਸਪਸ਼ਟਾ
 - 2. ਸਪਸ਼ਟ
 - 3. ਸਪੱਸ਼ਟ
 - 4. ਸਪਸ਼ਟੀ

Question ID : 441009305382

Option 1 ID : 4410091188264

Option 2 ID : 4410091188262

Option 3 ID : 4410091188263

Option 4 ID : 4410091188265

Status : Answered

Chosen Option : 2

Q.6 'ਬੁਰੀ ਗੱਲ ਦਾ ਭੇਦ ਪ੍ਰਗਟ ਨਾ ਹੋਣਾ ਦੇਣਾ' ਲਈ ਕਿਹੜਾ ਮੁਹਾਵਰਾ ਵਰਤਿਆ ਜਾਂਦਾ ਹੈ।

- Ans
- 1. ਢੇਰੀ ਢਾਹੁਣਾ
 - 2. ਝੋਲੀ ਚੁੱਕਣਾ
 - 3. ਢਕੀ ਰਿੱਝਣਾ
 - 4. ਦੜ ਵੱਟਣਾ

Question ID : 441009256901

Option 1 ID : 4410091001469

Option 2 ID : 4410091001470

Option 3 ID : 4410091001471

Option 4 ID : 4410091001472

Status : Answered

Chosen Option : 3

Q.7 ਹੇਠ ਲਿਖੇ ਵਿਕਲਪਾਂ ਵਿੱਚੋਂ ਅਸ਼ੁੱਧ ਸ਼ਬਦ ਜੋੜ ਦੀ ਚੋਣ ਕਰੋ:-

- Ans
- 1. ਪਿਆਸਾ
 - 2. ਗਰੀਬ
 - 3. ਸੁੱਚਾ
 - 4. ਅਮਿਰ

Question ID : 441009256791

Option 1 ID : 4410091001046

Option 2 ID : 4410091001048

Option 3 ID : 4410091001045

Option 4 ID : 4410091001047

Status : Answered

Chosen Option : 4

Q.8 ਨਿਮਨਲਿਖਤ ਸਹੀ ਤਰਤੀਬ ਚੁਣੋ।

- Ans
- 1. ਪੇਚ, ਜੇਠ, ਸਾਉਣ, ਕੱਤਕ
 - 2. ਅੱਸੂ, ਭਾਦੋਂ, ਸਾਉਣ, ਹਾੜ
 - 3. ਹਾੜ, ਮਾਘ, ਅੱਸੂ, ਨਵੰਬਰ
 - 4. ਹਾੜ, ਸਾਉਣ, ਭਾਦੋਂ, ਅੱਸੂ

Question ID : 441009257502

Option 1 ID : 4410091003844

Option 2 ID : 4410091003842

Option 3 ID : 4410091003843

Option 4 ID : 4410091003841

Status : Answered

Chosen Option : 4

Q.9 ਸਮਾਜੀ ਸ਼ਬਦ ਲਿਖਣ ਸਮੇਂ ਕਿਹੜੇ ਵਿਸਰਾਮ ਚਿੰਨ੍ਹ ਦੀ ਵਰਤੋਂ ਕੀਤੀ ਜਾਂਦੀ ਹੈ?

- Ans
- 1. ਛੱਟ ਮਰੇੜੀ (!)
 - 2. ਦੁਬਿੰਦੀ (:)
 - 3. ਕਾਮਾ (,)
 - 4. ਜੋੜਨੀ (-)

Question ID : 441009256764

Option 1 ID : 4410091000944

Option 2 ID : 4410091000942

Option 3 ID : 4410091000943

Option 4 ID : 4410091000941

Status : Answered

Chosen Option : 4

Q.1 ਵਾਕ 'ਕੁੱਤੇ ਦਾ ਰੰਗ ਕਾਲਾ ਹੈ।' ਵਿੱਚ 'ਕਾਲਾ' ਕੀ ਹੈ?

- Ans
- 1. ਵਿਸ਼ੇਸ਼ਣ
 - 2. ਕਿਰਿਆ
 - 3. ਪੜਨਾਂਵ
 - 4. ਨਾਂਵ

Question ID : 441009219057

Option 1 ID : 441009859819

Option 2 ID : 441009859820

Option 3 ID : 441009859821

Option 4 ID : 441009859818

Status : Answered

Chosen Option : 1

Q.1 ਤੂੰ ਸਰਾਸਰ ਝੂਠ ਬੋਲ ਰਿਹਾ ਹੈ, ਐਵੇਂ ਮੈਨੂੰ..... ਨਾ ਬਣਾ ਸਹੀ ਸ਼ਬਦ ਭਰੋ

- Ans
- 1. ਉੱਲੁ
 - 2. ਭਰਾ
 - 3. ਛੋਟਾ
 - 4. ਸਿਆਣਾ

Question ID : 441009305166

Option 1 ID : 4410091187356

Option 2 ID : 4410091187354

Option 3 ID : 4410091187357

Option 4 ID : 4410091187355

Status : Answered

Chosen Option : 1

Q.1 ਦਿੱਤੇ ਗਏ ਸ਼ਬਦ ਦਾ ਸਭ ਤੋਂ ਢੁਕਵਾਂ ਵਿਰੋਧਾਰਥਕ ਸ਼ਬਦ ਚੁਣੋ।

2

ਆਮਦਨ

Ans 1. ਪੈਸਾ

2. ਧਨ

3. ਤਨਖਾਹ

4. ਖਰਚ

Question ID : 441009324630

Option 1 ID : 4410091264799

Option 2 ID : 4410091264802

Option 3 ID : 4410091264801

Option 4 ID : 4410091264800

Status : Answered

Chosen Option : 3

Q.1 ਹੇਠ ਲਿਖਿਆਂ ਸ਼ਬਦਾਂ ਵਿਚੋਂ ਸਹੀ ਸ਼ਬਦ ਚੁਣੋ:

3

Ans 1. ਬਹੁਵਚਨ

2. ਬਹੁਵਚਨ

3. ਬੌਹਵਚਨ

4. ਬੋਹਵਚਨ

Question ID : 441009128075

Option 1 ID : 441009508920

Option 2 ID : 441009508919

Option 3 ID : 441009508917

Option 4 ID : 441009508918

Status : Answered

Chosen Option : 1

Q.1 ਇੰਨਾ ਵਿੱਚੋਂ ਕਿਹੜਾ ਦਿਨ ਗ਼ਲਤ ਮਿਲਾਇਆ ਗਿਆ ਹੈ?

4

Ans 1. Saturday – ਸਨਿੱਚਰਵਾਰ

2. Thursday – ਵੀਰਵਾਰ

3. Tuesday – ਮੰਗਲਵਾਰ

4. Monday – ਐਤਵਾਰ

Question ID : 441009308653

Option 1 ID : 4410091201291

Option 2 ID : 4410091201290

Option 3 ID : 4410091201288

Option 4 ID : 4410091201289

Status : Answered

Chosen Option : 4

Q.1 ਇਕਵਚਨ ਤੇ ਬਹੁਵਚਨ ਦਾ ਕਿਹੜਾ ਜੁੱਟ ਸਹੀ ਨਹੀਂ ਹੈ?

5

- Ans
- 1. ਚੁੰ- ਚੁੰਆਂ
 - 2. ਸੈ- ਸੈਆਂ
 - 3. ਸਹੁੰ- ਸਹੁੰਆਂ
 - 4. ਧੋਬੀ- ਧੋਬੀਆਂ

Question ID : 441009260919

Option 1 ID : 4410091017074

Option 2 ID : 4410091017073

Option 3 ID : 4410091017076

Option 4 ID : 4410091017075

Status : Answered

Chosen Option : 2

Q.1 "ਮੰਗਲਵਾਰ" ਹਫ਼ਤੇ ਦੇ ਕਿਹੜੇ ਨੰਬਰ ਦਾ ਦਿਨ ਹੈ? (ਨਾਨਕਸ਼ਾਹੀ ਕੈਲੰਡਰ ਅਨੁਸਾਰ)

6

- Ans
- 1. ਤੀਸਰਾ
 - 2. ਪਹੀਲਾ
 - 3. ਤਿਸਰਾ
 - 4. ਪਹਿਲਾ

Question ID : 441009308549

Option 1 ID : 4410091200854

Option 2 ID : 4410091200852

Option 3 ID : 4410091200853

Option 4 ID : 4410091200855

Status : Answered

Chosen Option : 1

Q.1 ਦਿੱਤੇ ਗਏ ਵਾਕਾਂ ਵਿੱਚੋਂ ਸ਼ੁੱਧ ਵਿਸ਼ਰਾਮ ਚਿੰਨ੍ਹ ਵਾਲਾ ਵਾਕ ਚੁਣੋ।

7

- Ans
- 1. ਮੈਂ ਕਿਹਾ, ਮੈਨੂੰ ਕੰਮ ਕਰਨ ਦਿਉ।
 - 2. ਮੈਂ ਕਿਹਾ ਮੈਨੂੰ ਕੰਮ ਕਰਨ ਦਿਉ।
 - 3. ਮੈਂ ਕਿਹਾ "ਮੈਨੂੰ ਕੰਮ ਕਰਨ ਦਿਉ।"
 - 4. ਮੈਂ ਕਿਹਾ, "ਮੈਨੂੰ ਕੰਮ ਕਰਨ ਦਿਉ।"

Question ID : 441009304608

Option 1 ID : 4410091185116

Option 2 ID : 4410091185117

Option 3 ID : 4410091185115

Option 4 ID : 4410091185114

Status : Answered

Chosen Option : 4

Q.1
8 'ਦਿਨਾ' ਸ਼ਬਦ ਦਾ ਵਿਰੋਧੀ ਸ਼ਬਦ ਕੀ ਹੈ?

- Ans
- 1. ਦੁਪਹਿਰ
 - 2. ਸਵੇਰ
 - 3. ਸ਼ਾਮ
 - 4. ਰਾਤ

Question ID : 441009187989

Option 1 ID : 441009742021

Option 2 ID : 441009742018

Option 3 ID : 441009742019

Option 4 ID : 441009742020

Status : Answered

Chosen Option : 4

Q.1
9 ਹੇਠ ਲਿਖਿਆਂ ਵਿੱਚੋਂ ਕਿਹੜਾ ਸ਼ਬਦ "ਸਹਿ" ਅਗੇਤਰ ਨਾਲ ਬਣਿਆ ਹੈ?

- Ans
- 1. ਸਵਿਕਾਰ
 - 2. ਸਹੀ
 - 3. ਸਹਿਯੋਗ
 - 4. ਯੋਗਤਾ

Question ID : 441009302781

Option 1 ID : 4410091177914

Option 2 ID : 4410091177913

Option 3 ID : 4410091177915

Option 4 ID : 4410091177912

Status : Answered

Chosen Option : 3

Q.2
0 "ਕੁਰਸੀ" ਦਾ ਬਹੁ-ਵਚਨ ਚੁਣੋ

- Ans
- 1. ਕੁਰਸੀਓ
 - 2. ਕੁਰਸਿਆਂ
 - 3. ਕੁਰਸੀਆਂ
 - 4. ਕੁਰਸੀਏਂ

Question ID : 441009329385

Option 1 ID : 4410091283964

Option 2 ID : 4410091283963

Option 3 ID : 4410091283962

Option 4 ID : 4410091283965

Status : Answered

Chosen Option : 3

Q.2 ਅਣਖੀਲਾ ਵਿੱਚ ਕਿਹੜਾ ਪਿਛੇਤਰ ਵਰਤਿਆ ਗਿਆ ਹੈ?

1

- Ans
- 1. ਸ਼ੀਲਾ
 - 2. ਲਾ
 - 3. ਦੀਲਾ
 - 4. ਖੀਲਾ

Question ID : 441009252318

Option 1 ID : 441009983193

Option 2 ID : 441009983195

Option 3 ID : 441009983192

Option 4 ID : 441009983194

Status : Answered

Chosen Option : 3

Q.2 '57' ਦਾ ਸ਼ੁੱਧ ਸ਼ਬਦ ਰੂਪ ਚੁਣੋ:

2

- Ans
- 1. ਸਤਵੰਜਾ
 - 2. ਸੰਤਵਜਾਂ
 - 3. ਸਤਵੰਜਾਂ
 - 4. ਸਤਵੰਜਾ

Question ID : 441009127845

Option 1 ID : 441009508006

Option 2 ID : 441009508008

Option 3 ID : 441009508007

Option 4 ID : 441009508005

Status : Answered

Chosen Option : 1

Q.2 ਕਿਰਿਆ ਕਿੰਨੇ ਪ੍ਰਕਾਰ ਦੀ ਹੁੰਦੀ ਹੈ ?

3

- Ans
- 1. ਚਾਰ
 - 2. ਪੰਜ
 - 3. ਤਿੰਨ
 - 4. ਦੋ

Question ID : 441009329244

Option 1 ID : 4410091283378

Option 2 ID : 4410091283379

Option 3 ID : 4410091283377

Option 4 ID : 4410091283376

Status : Answered

Chosen Option : 4

Q.2 'ਜਿਸ ਦੇ ਘਰ ਪੀ-ਪੁੱਤ ਹੋਵੇ' ਲਈ ਬਹੁਤੇ ਸ਼ਬਦਾਂ ਦੀ ਥਾਂ ਇੱਕ ਸ਼ਬਦ ਦੀ ਚੋਣ ਕਰੋ।

4

Ans 1. ਵਿਆਹੁਤਾ

2. ਮੌਤਰਾ

3. ਕਬੀਲਦਾਰ

4. ਰਿਸ਼ਤੇਦਾਰ

Question ID : 441009282258

Option 1 ID : 4410091096920

Option 2 ID : 4410091096918

Option 3 ID : 4410091096919

Option 4 ID : 4410091096921

Status : Answered

Chosen Option : 2

Q.2 ਹੇਠ ਲਿਖੇ ਵਿਕਲਪਾਂ ਵਿੱਚੋਂ ਪੁਲਿੰਗ ਸ਼ਬਦਾਂ ਦੇ ਸਹੀ ਜੁੱਟ ਦੀ ਚੋਣ ਕਰੋ:-

5

Ans 1. ਲੜਕੀ, ਦਾਦੀ, ਭੈਣ

2. ਸਬਜੀ, ਫਲ, ਕੁਰਸੀ

3. ਮੋਰਨੀ, ਖੋਜਣ, ਧਰਤੀ

4. ਪਿਤਾ, ਮਾਮਾ, ਚਾਚਾ, ਜੀਜਾ

Question ID : 441009260930

Option 1 ID : 4410091017119

Option 2 ID : 4410091017118

Option 3 ID : 4410091017120

Option 4 ID : 4410091017117

Status : Answered

Chosen Option : 4

Q.2 English Sentence: "The Prime Minister addressed the nation yesterday."
6 Which of the following is the perfect translation?

Ans 1. ਮੁੱਖ ਮੰਤਰੀ ਨੇ ਕੱਲ੍ਹ ਦੇਸ਼ ਨੂੰ ਸੰਬੋਧਨ ਕੀਤਾ।

2. ਪਰਧਾਨ ਮੰਤਰੀ ਨੇ ਕੱਲ੍ਹ ਲੋਕਾਂ ਨੂੰ ਸੰਬੋਧਨ ਕੀਤਾ।

3. ਪ੍ਰਧਾਨ ਮੰਤਰੀ ਨੇ ਕੱਲ੍ਹ ਦੇਸ਼ ਨੂੰ ਸੰਬੋਧਨ ਕੀਤਾ।

4. ਪ੍ਰਧਾਨ ਮੰਤਰੀ ਨੇ ਕੱਲ ਦੇਸ਼ ਨੂੰ ਸੰਬੋਧਨ ਕੀਤਾ।

Question ID : 441009267154

Option 1 ID : 4410091037878

Option 2 ID : 4410091037877

Option 3 ID : 4410091037876

Option 4 ID : 4410091037879

Status : Answered

Chosen Option : 3

Q.2 7 ਹੇਠ ਲਿਖਿਆਂ ਵਿਚੋਂ ਕਿਹੜਾ ਸ਼ਬਦ-ਜੋੜ ਅਸੁੱਧ ਹੈ?

- Ans
- 1. ਸਦੀਵੀ
 - 2. ਪਰਿਭਾਸ਼ਾ
 - 3. ਸਵਿਧਾਨ
 - 4. ਸਰਬਸੰਮਤੀ

Question ID : 441009244424

Option 1 ID : 441009954476

Option 2 ID : 441009954477

Option 3 ID : 441009954479

Option 4 ID : 441009954478

Status : Answered

Chosen Option : 3

Q.2 8 ਹੇਠ ਲਿਖੇ ਵਿਕਲਪਾਂ ਵਿਚੋਂ ਸਹੀ ਇਸਤਰੀ ਲਿੰਗ ਦੀ ਚੋਣ ਕਰੋ:-

- Ans
- 1. ਗੋਲੀ
 - 2. ਕਾਕਾ
 - 3. ਸੋਟਾ
 - 4. ਖੇਤਾ

Question ID : 441009261110

Option 1 ID : 4410091017808

Option 2 ID : 4410091017807

Option 3 ID : 4410091017810

Option 4 ID : 4410091017809

Status : Answered

Chosen Option : 1

Q.2 9 ਹੇਠ ਲਿਖਿਆਂ ਵਿਚੋਂ ਕਿਹੜਾ ਸ਼ਬਦ-ਜੋੜ ਅਸੁੱਧ ਹੈ?

- Ans
- 1. ਬਦਨਿਤੀ
 - 2. ਮੁਆਵਜ਼ਾ
 - 3. ਨਾਗਰਿਕਤਾ
 - 4. ਕੁਹਜ

Question ID : 441009244434

Option 1 ID : 441009954519

Option 2 ID : 441009954516

Option 3 ID : 441009954518

Option 4 ID : 441009954517

Status : Answered

Chosen Option : 1

Q.3
0 ਦਿੱਤੇ ਗਏ ਵਿਕਲਪਾਂ ਵਿੱਚੋਂ ਸ਼ੁੱਧ ਵਾਕ ਚੁਣੋ।

ਨਾਨਕ ਸਿੰਘ ਪੰਜਾਬ ਦੇ ਉੱਘੇ ਨਾਵਲਕਾਰ ਸਨ।

- Ans
- 1. ਨਨਕ ਸਿੰਘ ਪੰਜਾਬੀ ਦੇ ਉੱਘੇ ਨਾਵਲਕਾਰ ਸਨ।
 - 2. ਨਾਨਕ ਸਿੰਘ ਪੰਜਾਬ ਦੇ ਉੱਘੇ ਨਵਿਲਕਾਰ ਸਨ।
 - 3. ਨਾਨਕ ਸਿੰਘ ਪੰਜਾਬੀ ਦੇ ਉੱਘੇ ਨਵਿਲਕਾਰ ਸਨ।
 - 4. ਨਾਨਕ ਸਿੰਘ ਪੰਜਾਬੀ ਦੇ ਉੱਘੇ ਨਾਵਲਕਾਰ ਸਨ।

Question ID : 441009331432

Option 1 ID : 4410091291874

Option 2 ID : 4410091291872

Option 3 ID : 4410091291875

Option 4 ID : 4410091291873

Status : Answered

Chosen Option : 4

Q.3
1 ਹੇਠ ਦਿੱਤੇ ਸਵਾਲ ਵਿੱਚ, ਦਿੱਤੇ ਗਏ ਚਾਰ ਵਿਕਲਪਾਂ ਵਿੱਚੋਂ, ਉਹ ਵਿਕਲਪ ਚੁਣੋ ਜੋ ਮੁਹਾਵਰੇ/ਵਾਕਾਂਸ਼ ਦੇ ਅਰਥ ਨੂੰ ਸਭ ਤੋਂ ਵਧੀਆ ਢੰਗ ਨਾਲ ਪ੍ਰਗਟ ਕਰਦਾ ਹੈ।

ਮੁੱਠੀ ਗਰਮ ਕਰਨਾ

- Ans
- 1. ਰਿਸ਼ਵਤਖੋਰ ਹੋਣਾ
 - 2. ਰਿਸ਼ਵਤ ਲੈਣਾ
 - 3. ਰਿਸ਼ਵਤ ਦੇਣਾ
 - 4. ਮੁੱਠੀ ਬੰਦ ਕਰਨਾ

Question ID : 441009328668

Option 1 ID : 4410091281100

Option 2 ID : 4410091281098

Option 3 ID : 4410091281099

Option 4 ID : 4410091281101

Status : Answered

Chosen Option : 3

Q.3
2 ਸ਼ਬਦ ਰਚਨਾ ਦੇ ਅਧਾਰ ਤੇ ਸ਼ਬਦਾਂ ਦੇ ਤਿੰਨ ਪ੍ਰਕਾਰ ਚੁਣੋ :-

- Ans
- 1. ਕਿਰਿਆ, ਸੰਬੰਧਕ, ਯੋਜਕ
 - 2. ਮੂਲ ਸ਼ਬਦ, ਉਤਪੰਨ ਸ਼ਬਦ, ਸਮਾਸੀ ਸ਼ਬਦ
 - 3. ਨਾਂਵ, ਪੜਨਾਂਵ, ਵਿਸ਼ੇਸ਼ਣ
 - 4. ਲਿੰਗ, ਵਚਨ, ਕਾਰਕ

Question ID : 441009263656

Option 1 ID : 4410091027084

Option 2 ID : 4410091027083

Option 3 ID : 4410091027085

Option 4 ID : 4410091027082

Status : Answered

Chosen Option : 2

Q.3 ਦਿੱਤੇ ਗਏ ਸ਼ਬਦਾਂ ਵਿੱਚੋਂ "ਸ਼ਰਮੀਲਾ" ਸ਼ਬਦ ਲਈ ਕਿਹੜਾ ਸਹੀ ਪਿਛੇਤਰ ਹੈ?

3

Ans ✓ 1. ਈਲਾ

✗ 2. ਲਾ

✗ 3. ਇਲਾ

✗ 4. ਮੀਲਾ

Question ID : 441009325442

Option 1 ID : 4410091268080

Option 2 ID : 4410091268081

Option 3 ID : 4410091268083

Option 4 ID : 4410091268082

Status : Answered

Chosen Option : 1

Q.3 ਅੰਗਰੇਜ਼ੀ ਵਿੱਚ ਦਿੱਤੇ ਸ਼ਬਦ ਦਾ ਪੰਜਾਬੀ ਵਿੱਚ ਅਨੁਵਾਦ ਕਰੋ।

4

Quaint

Ans ✓ 1. ਵਿਚਿੱਤਰ

✗ 2. ਨਿਛੱਤਰ

✗ 3. ਛਿੱਤਰ

✗ 4. ਚਿੱਤਰ

Question ID : 441009332672

Option 1 ID : 4410091296699

Option 2 ID : 4410091296698

Option 3 ID : 4410091296697

Option 4 ID : 4410091296696

Status : Answered

Chosen Option : 1

Q.3 ਪੰਜਾਬੀ ਭਾਸ਼ਾ ਅਨੁਸਾਰ ਅਸੁੱਧ ਸ਼ਬਦ ਚੁਣੋ:

5

Ans ✗ 1. ਪਰਦੇਸ

✗ 2. ਮੰਤਰੀ

✓ 3. ਮਤਰੀ

✗ 4. ਮਿੱਤਰ

Question ID : 441009162300

Option 1 ID : 441009642856

Option 2 ID : 441009642854

Option 3 ID : 441009642853

Option 4 ID : 441009642855

Status : Answered

Chosen Option : 3

Q.3 ਗਿਲਾਸ ਕਿਸ ਨੇ ਤੋੜਿਆ? ਪੜਨਾਂਵ ਦੀ ਕਿਸਮ ਹੈ?

6

Ans 1. ਸੰਬੰਧ ਵਾਚਕ ਪੜਨਾਂਵ

2. ਪ੍ਰਸ਼ਨ ਵਾਚਕ ਪੜਨਾਂਵ

3. ਨਿੱਜ ਵਾਚਕ ਪੜਨਾਂਵ

4. ਨਿਸ਼ਚੇ ਵਾਚਕ ਪੜਨਾਂਵ

Question ID : 441009252252

Option 1 ID : 441009982947

Option 2 ID : 441009982944

Option 3 ID : 441009982945

Option 4 ID : 441009982946

Status : Answered

Chosen Option : 2

Q.3 ਵਾਕ ਦੇ ਅੰਤ ਵਿੱਚ ਪੂਰਨ ਵਿਸ਼ਰਾਮ ਜਾਂ ਠਹਿਰਾਓ ਲਈ ਕਿਹੜਾ ਵਿਸ਼ਰਾਮ ਚਿੰਨ੍ਹ ਵਰਤਿਆ ਜਾਂਦਾ ਹੈ?

7

Ans 1. ਕਾਮਾ (,)

2. ਡੰਡੀ (!)

3. ਪ੍ਰਸ਼ਨ ਚਿੰਨ੍ਹ (?)

4. ਵਿਸਮਿਕ ਚਿੰਨ੍ਹ (!)

Question ID : 441009219298

Option 1 ID : 441009860613

Option 2 ID : 441009860615

Option 3 ID : 441009860614

Option 4 ID : 441009860616

Status : Answered

Chosen Option : 2

Q.3 ਦਿੱਤੇ ਗਏ ਵਿਕਲਪਾਂ ਵਿੱਚੋਂ ਸ਼ੁੱਧ ਵਾਕ ਚੁਣੋ।

8

ਸੂਰਜ ਦੀ ਮਿਹਨਤ ਖ਼ਰਾਬ ਹੋ ਗਈ।

Ans 1. ਸੂਰਜ ਦੇ ਮਿਹਨਤ ਖ਼ਰਾਬ ਹੋ ਗਏ।

2. ਸੂਰਜ ਦੀ ਮਿਹਨਤ ਖ਼ਰਾਬ ਹੋ ਗਈਆਂ।

3. ਸੂਰਜ ਦੀ ਮਿਹਨਤ ਖ਼ਰਾਬ ਹੋ ਗਈ।

4. ਸੂਰਜ ਦੀ ਮੇਹਨਤ ਖ਼ਰਾਬ ਹੋ ਗਿਆ।

Question ID : 441009305208

Option 1 ID : 4410091187543

Option 2 ID : 4410091187545

Option 3 ID : 4410091187544

Option 4 ID : 4410091187542

Status : Answered

Chosen Option : 3

Q.3 9	ਜਿਹੜੇ ਸ਼ਬਦ ਪੁਰਸ਼-ਇਸਤਰੀ ਦੇ ਭੇਦ ਨੂੰ ਦਰਸਾਉਣ, ਉਨ੍ਹਾਂ ਨੂੰ _____ ਕਿਹਾ ਜਾਂਦਾ ਹੈ।
Ans	<p><input checked="" type="checkbox"/> 1. ਪੜਨਾਂਵ</p> <p><input checked="" type="checkbox"/> 2. ਵਚਨ</p> <p><input checked="" type="checkbox"/> 3. ਨਾਂਵ</p> <p><input checked="" type="checkbox"/> 4. ਲਿੰਗ</p>

Question ID :	441009159119
Option 1 ID :	441009631361
Option 2 ID :	441009631359
Option 3 ID :	441009631362
Option 4 ID :	441009631360
Status :	Answered
Chosen Option :	4

Q.4 0	ਅੰਗਰੇਜ਼ੀ ਵਿੱਚ ਦਿੱਤੇ ਗਏ ਵਾਕ ਦਾ ਪੰਜਾਬੀ ਵਿੱਚ ਅਨੁਵਾਦ ਕਰੋ। Since you are late, I can't let you go in.
Ans	<p><input checked="" type="checkbox"/> 1. ਤੁਸੀਂ ਦੇਰ ਨਾਲ ਕਿਉਂਕਿ ਆਏ ਹੋ, ਮੈਂ ਤੁਹਾਨੂੰ ਅੰਦਰ ਨਹੀਂ ਜਾਣ ਦੇ ਸਕਦਾ।</p> <p><input checked="" type="checkbox"/> 2. ਮੈਂ ਤੁਹਾਨੂੰ ਜਾਣ ਦੇ ਨਹੀਂ ਸਕਦਾ, ਕਿਉਂਕਿ ਤੁਸੀਂ ਦੇਰ ਨਾਲ ਆਏ ਹੋ।</p> <p><input checked="" type="checkbox"/> 3. ਕਿਉਂਕਿ ਤੁਸੀਂ ਦੇਰ ਨਾਲ ਆਏ ਹੋ, ਅੰਦਰ ਨਹੀਂ ਜਾਣ ਮੈਂ ਤੁਹਾਨੂੰ ਦੇ ਸਕਦਾ।</p> <p><input checked="" type="checkbox"/> 4. ਮੈਂ ਤੁਹਾਨੂੰ ਅੰਦਰ ਨਹੀਂ ਜਾਣ ਦੇ ਸਕਦਾ, ਕਿਉਂਕਿ ਤੁਸੀਂ ਦੇਰ ਨਾਲ ਆਏ ਹੋ।</p>

Question ID :	441009327908
Option 1 ID :	4410091278097
Option 2 ID :	4410091278096
Option 3 ID :	4410091278098
Option 4 ID :	4410091278095
Status :	Answered
Chosen Option :	4

Q.4 1	ਸਾਲ ਦੇ ਕਿਹੜੇ ਮਹੀਨੇ ਦਾ ਨਾਮ ਸਹੀ ਹੈ ?
Ans	<p><input checked="" type="checkbox"/> 1. ਜਲਾਈ</p> <p><input checked="" type="checkbox"/> 2. ਮਈ</p> <p><input checked="" type="checkbox"/> 3. ਨਬੰਵਰ</p> <p><input checked="" type="checkbox"/> 4. ਜਨਬਰੀ</p>

Question ID :	441009286723
Option 1 ID :	4410091113866
Option 2 ID :	4410091113864
Option 3 ID :	4410091113865
Option 4 ID :	4410091113867
Status :	Answered
Chosen Option :	2

Q.4
2 ਹੇਠ ਲਿਖਿਆਂ ਵਿਚੋਂ ਸਹੀ ਸ਼ਬਦ ਚੁਣੋ

- Ans
- 1. ਇਸਤੀਰ
 - 2. ਟਿਊਬਵੈੱਲ
 - 3. ਜਮੀਨ
 - 4. ਪੱਦਰੀ

Question ID : 441009287784

Option 1 ID : 4410091118044

Option 2 ID : 4410091118043

Option 3 ID : 4410091118045

Option 4 ID : 4410091118046

Status : Answered

Chosen Option : 2

Q.4
3 'Wisdom' ਦਾ ਸਹੀ ਪੰਜਾਬੀ ਅਨੁਵਾਦ ਹੈ:-

- Ans
- 1. ਤੇਜ਼ੀ
 - 2. ਸਿਆਣਪ
 - 3. ਤਾਕਤ
 - 4. ਪਿਆਰ

Question ID : 441009260876

Option 1 ID : 4410091016901

Option 2 ID : 4410091016902

Option 3 ID : 4410091016904

Option 4 ID : 4410091016903

Status : Answered

Chosen Option : 2

Q.4
4 ਹੇਠ ਲਿਖੇ ਵਿਕਲਪਾਂ ਵਿਚੋਂ ਸੁੱਧ ਸ਼ਬਦ ਦੀ ਚੋਣ ਕਰੋ:-

- Ans
- 1. ਅਧੁਨੀਕ
 - 2. ਬਿਅਨ
 - 3. ਮਹਿਮਨ
 - 4. ਮੰਤਰਮੁਗਧ

Question ID : 441009256797

Option 1 ID : 4410091001071

Option 2 ID : 4410091001069

Option 3 ID : 4410091001070

Option 4 ID : 4410091001072

Status : Answered

Chosen Option : 4

Q.4
5 ਸਹੀ ਵਿਕਲਪ ਦੀ ਚੋਣ ਕਰੋ:

- Ans
- 1. ਬਈ ਵਾਹ ! ਕਮਾਲ ਕਰ ਦਿੱਤਾ ਏ ਬਹਾਦਰ ਕੁੜੀ ਨੇ।
 - 2. ਬਈ ਵਾਹ ! ਕਮਾਲ ਕਰ ਦਿੱਤਾ ਏ ਬਹਾਦਰ ਕੁੜੀ ਨੇ ?
 - 3. ਬਈ ਵਾਹ ! ਕਮਾਲ ਕਰ ਦਿੱਤਾ ਏ ਬਹਾਦਰ ਕੁੜੀ ਨੇ !
 - 4. ਬਈ ! ਵਾਹ ! ਕਮਾਲ ਕਰ ਦਿੱਤਾ ਏ ਬਹਾਦਰ ਕੁੜੀ ਨੇ !

Question ID : 441009326980

Option 1 ID : 4410091274282

Option 2 ID : 4410091274283

Option 3 ID : 4410091274280

Option 4 ID : 4410091274281

Status : Answered

Chosen Option : 1

Q.4
6 ਹੇਠ ਲਿਖੇ ਸ਼ਬਦ-ਜੁੱਟਾਂ ਵਿੱਚੋਂ ਇਕ-ਵਚਨ ਦੀ ਚੋਣ ਕਰੋ:

- Ans
- 1. ਫੁਲ, ਕੇਲੇ, ਬੱਸਾਂ
 - 2. ਫਰਨੀਚਰ, ਘੋੜੇ, ਮੁੰਡੇ
 - 3. ਮੁੰਡੇ, ਘਰ, ਕੱਪ-ਪਲੇਟਾਂ
 - 4. ਘੋੜਾ, ਸੀਸ਼ਾ, ਮਾਂ

Question ID : 441009149070

Option 1 ID : 441009592064

Option 2 ID : 441009592065

Option 3 ID : 441009592067

Option 4 ID : 441009592066

Status : Answered

Chosen Option : 4

Q.4
7 “ਜਦੋਂ ਇਕੋ ਸਥਿਤੀ, ਵਸਤੂ ਆਦਿ ਨੂੰ ਪ੍ਰਗਟਾਉਣ ਲਈ ਇੱਕ ਤੋਂ ਵਧੇਰੇ ਸ਼ਬਦ ਰੂਪਾਂ ਦੀ ਵਰਤੋਂ ਕੀਤੀ ਜਾਵੇ” ਨੂੰ ਕੀ ਕਿਹਾ ਜਾਂਦਾ ਹੈ?

- Ans
- 1. ਸ਼ਬਦ ਬੋਧ
 - 2. ਨਿੱਜਵਾਚਕ ਸ਼ਬਦ
 - 3. ਵਿਰੋਧੀ ਸ਼ਬਦ
 - 4. ਸਮਾਨਾਰਥਕ ਸ਼ਬਦ

Question ID : 441009130417

Option 1 ID : 441009518058

Option 2 ID : 441009518057

Option 3 ID : 441009518055

Option 4 ID : 441009518056

Status : Answered

Chosen Option : 4

Test

Prime

By Adda247

Previous Year Papers PDF

PRACTICE MORE, SCORE HIGHER!



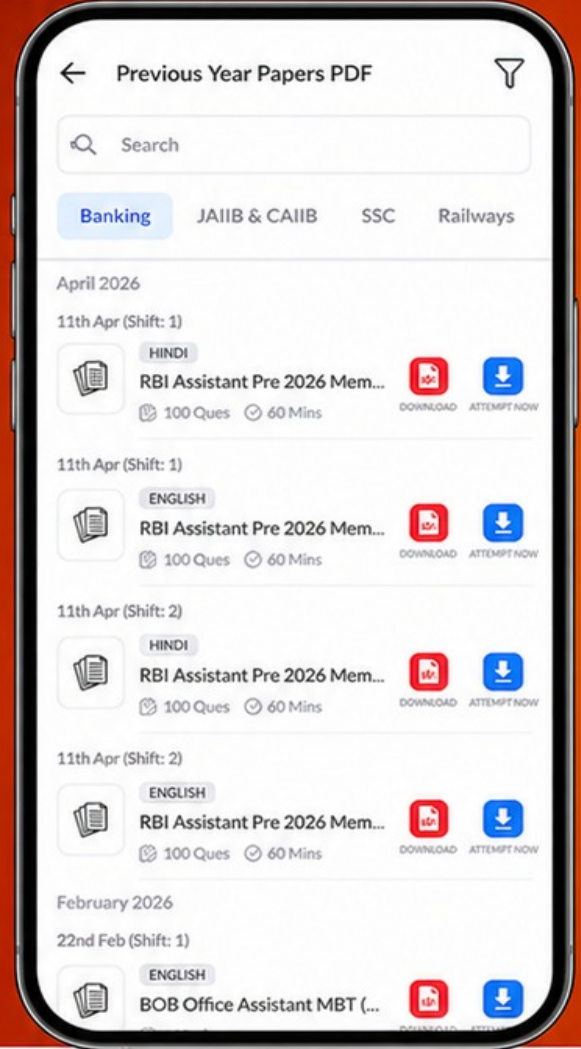
Free
25,000+
PDF's

High-Quality | Exam-Wise | Updated Regularly

ATTEMPT AS
MOCK



Turn PDFs into real exam experience.
Analyze. Improve. Succeed.



Topic-wise &
Exam-wise PDFs



Download &
Study Offline



Attempt as Mock
& Track Score



Smart Analysis
& Performance

AVAILABLE IN



Banking



SSC



Railway



Teaching



UGC



Agriculture



Nursing



Bihar



UP



Punjab



WB



Odisha



TN



AP & Telangana



Haryana



DOWNLOAD THE APP



Q.4
8 ਸਹੀ ਵਚਨ/ਬਹੁਵਚਨ ਦੱਸੋ

- Ans 1. ਕੁਰਸੀ/ਕੁਰਸੀਆਂ
 2. ਖੇਤਾ/ਘੋੜੇ
 3. ਕਲਮ/ਕਲਮੀਆਂ
 4. ਕਾਂ/ਚਿੜੀ

Question ID : 441009286721

Option 1 ID : 4410091113856

Option 2 ID : 4410091113857

Option 3 ID : 4410091113859

Option 4 ID : 4410091113858

Status : Answered

Chosen Option : 1

Q.4
9 ਪੰਜਾਬੀ ਵਿੱਚ ਦਿੱਤੇ ਗਏ ਵਾਕ ਦਾ ਅੰਗਰੇਜ਼ੀ ਵਿੱਚ ਅਨੁਵਾਦ ਕਰੋ।

ਗੱਡੀ ਕਿਹੜੇ ਪਲੇਟਫਾਰਮ ਤੋਂ ਰਵਾਨਾ ਹੁੰਦੀ ਹੈ?

- Ans 1. What platform does the train goes from?
 2. Which platform goes does the train from?
 3. Which platform does the train left from?
 4. From which platform does the train depart?

Question ID : 441009332901

Option 1 ID : 4410091297595

Option 2 ID : 4410091297598

Option 3 ID : 4410091297597

Option 4 ID : 4410091297596

Status : Answered

Chosen Option : 4

Q.5
0 ਹੇਠ ਲਿਖਿਆਂ ਵਿੱਚੋਂ ਕਿਹੜਾ ਅੰਗਰੇਜ਼ੀ ਸ਼ਬਦ 'Lavish' ਦਾ ਪੰਜਾਬੀ ਅਨੁਵਾਦ ਨਹੀਂ ਹੈ?

- Ans 1. ਸਰਫਾ
 2. ਬਹੁਤ ਜ਼ਿਆਦਾ
 3. ਫਜ਼ੂਲ ਖਰਚ
 4. ਲੋੜ ਤੋਂ ਵੱਧ

Question ID : 441009164499

Option 1 ID : 441009651620

Option 2 ID : 441009651618

Option 3 ID : 441009651619

Option 4 ID : 441009651621

Status : Answered

Chosen Option : 1