

**DSSSB
SET**

**Previous Year Paper
14 Jul, 2024 Shift 1**



**Test
Prime**

By Adda247

ALL EXAMS, ONE SUBSCRIPTION



Test. Analyze. Improve. Repeat.



Don't just *prepare*. Perform.

Test Prime — built only for mock tests.



1,50,000+

Mock Tests



25,000+

Previous Year Papers



800+

Exam Covered



500% Refund

on Selection



5 lakh+

Free Quizzes



Daily

Free PDFs



Job Alerts

Stay Updated

- Multilingual
- Detailed Solution
- Strong and Weak Areas



**All India
Rankings**

Compete with lakhs.
Rank. Improve. Repeat.



← Adda247 test prime

Rating ▾

Editors' choice

New



Adda247 Test Prime

Adda Education • Education

📌 Installed



DOWNLOAD THE APP





GOVT. OF NCT OF DELHI
Delhi Subordinate Services Selection Board
FC-18, Institutional Area, Karkardooma, Delhi – 110092.
www.dsssb.delhigovt.nic.in

Participant ID	
Participant Name	
Test Center Name	
Test Date	14/07/2024
Test Time	8:30 AM - 10:30 AM
Subject	Special Education Teacher

Section : General Intelligence and Reasoning Ability

Q.1 निम्नलिखित समीकरण में किन दो संख्याओं को परस्पर बदलने पर, समीकरण गणितीय रूप से सही हो जाएगा?

$$125 - 25 + 925 + 37 \times 8 = 100$$

- Ans
- ✓ 1. 25 और 125
 - ✗ 2. 37 और 125
 - ✗ 3. 25 और 37
 - ✗ 4. 8 और 25

Question ID : 630680896513
Option 1 ID : 6306803512025
Option 2 ID : 6306803512026
Option 3 ID : 6306803512024
Option 4 ID : 6306803512023

Q.2 दिए गए विकल्पों में से उस संख्या का चयन कीजिए जो निम्नलिखित श्रृंखला में प्रश्न-चिह्न (?) के स्थान पर आ सकती है।

$$217, 227, 244, 268, 299, 337, ?$$

- Ans
- ✓ 1. 382
 - ✗ 2. 380
 - ✗ 3. 381
 - ✗ 4. 383

Question ID : 630680896515
Option 1 ID : 6306803512031
Option 2 ID : 6306803512034
Option 3 ID : 6306803512033
Option 4 ID : 6306803512032

Q.3 दिए गए कथनों और निष्कर्षों को ध्यान से पढ़िए। यह मानते हुए कि कथनों में दी गई जानकारी सत्य है, भले ही वह सामान्यतः ज्ञात तथ्यों से भिन्न प्रतीत होती हो, तय कीजिए कि दिए गए निष्कर्षों में से कौन-सा/से निष्कर्ष, कथनों का तार्किक रूप से अनुसरण करता है/करते हैं।

कथन:

(A) कुछ पतंगें, अंगूठियाँ हैं।

(B) कुछ अंगूठियाँ, जूते हैं।

(C) सभी जूते, घड़ियाँ हैं।

निष्कर्ष:

I. कुछ पतंगें, घड़ियाँ हैं।

II. कुछ अंगूठियाँ, घड़ियाँ हैं।

Ans ✓ 1. केवल निष्कर्ष II अनुसरण करता है।

✗ 2. केवल निष्कर्ष I अनुसरण करता है।

✗ 3. न तो निष्कर्ष I और न ही II अनुसरण करता है।

✗ 4. निष्कर्ष I और II दोनों अनुसरण करते हैं।

Question ID : 630680896503
Option 1 ID : 6306803511984
Option 2 ID : 6306803511983
Option 3 ID : 6306803511985
Option 4 ID : 6306803511986

Q.4 एक तस्वीर में एक व्यक्ति की ओर इशारा करते हुए, एक महिला ने कहा "वह मेरी माँ के पति के पिता का इकलौता पुत्र है।" तस्वीर में महिला का व्यक्ति से क्या संबंध है?

Ans ✗ 1. पत्नी

✓ 2. पुत्री

✗ 3. बहन

✗ 4. माँ

Question ID : 630680896501
Option 1 ID : 6306803511975
Option 2 ID : 6306803511978
Option 3 ID : 6306803511976
Option 4 ID : 6306803511977

Q.5 अंग्रेजी वर्णमाला क्रम के आधार पर दी गई श्रृंखला में प्रश्न-चिह्न (?) के स्थान पर क्या आना चाहिए?

MUB, QYF, UCJ, YGN, CKR, ?

- Ans
- 1. GNV
 - 2. GOV
 - 3. GNU
 - 4. GOU

Question ID : 630680896508
Option 1 ID : 6306803512006
Option 2 ID : 6306803512003
Option 3 ID : 6306803512004
Option 4 ID : 6306803512005

Q.6 उस विकल्प का चयन कीजिए जिसमें संख्याएँ उसी प्रकार संबंधित हैं जिस प्रकार दिए गए समूह में संख्याएँ संबंधित हैं।

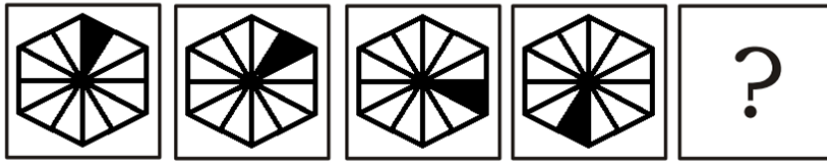
(14 : 196)

(23 : 322)

- Ans
- 1. (18 : 262)
 - 2. (20 : 280)
 - 3. (17 : 228)
 - 4. (21 : 290)

Question ID : 630680896516
Option 1 ID : 6306803512038
Option 2 ID : 6306803512036
Option 3 ID : 6306803512035
Option 4 ID : 6306803512037

Q.7 दिए गए विकल्पों में से उस आकृति का चयन कीजिए जो निम्नलिखित श्रृंखला में प्रश्न-चिह्न (?) के स्थान पर आ सकती है।



Ans

✓ 1.



✗ 2.



✗ 3.



✗ 4.



Question ID : 630680896509
 Option 1 ID : 6306803512009
 Option 2 ID : 6306803512008
 Option 3 ID : 6306803512010
 Option 4 ID : 6306803512007

Q.8 दिए गए विकल्पों में से उस संख्या का चयन कीजिए जो निम्नलिखित श्रृंखला में प्रश्न-चिह्न (?) के स्थान पर आ सकती है।

158, 175, 192, 209, 226, 243, ?

- Ans
- 1. 258
 - 2. 259
 - 3. 260
 - 4. 261

Question ID : 630680896514

Option 1 ID : 6306803512030

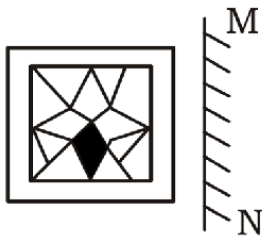
Option 2 ID : 6306803512029

Option 3 ID : 6306803512028

Option 4 ID : 6306803512027



Q.9 दर्पण को नीचे दर्शाए अनुसार MN पर रखे जाने पर, दी गई आकृति के सही दर्पण प्रतिबिंब का चयन कीजिए।



Ans

✗ 1.



✓ 2.



✗ 3.



✗ 4.



Question ID : 630680896511
 Option 1 ID : 6306803512018
 Option 2 ID : 6306803512016
 Option 3 ID : 6306803512015
 Option 4 ID : 6306803512017

Q.10 एक निश्चित कूट भाषा में, 'VENDOR' को 'RIZVSH' के रूप में कूटबद्ध किया गया है तथा 'JUNGLE' को 'RYNIPK' के रूप में कूटबद्ध किया गया है। उसी कूट भाषा में 'HONEST' को किस प्रकार कूटबद्ध किया जाएगा?

- Ans
- 1. RSLWVI
 - 2. QSLXWI
 - 3. RSLXWI
 - 4. QSLWVI

Question ID : 630680896500
Option 1 ID : 6306803511971
Option 2 ID : 6306803511972
Option 3 ID : 6306803511973
Option 4 ID : 6306803511974

Q.11 यदि '-' का अर्थ 'x' है, '+' का अर्थ '+' है, 'x' का अर्थ '-' है और '+' का अर्थ '+' है, तो निम्नलिखित समीकरण में प्रश्न-चिह्न (?) के स्थान पर क्या आएगा?

$$25 + 37 - 19 \times 91 + 7 = ?$$

- Ans
- 1. 715
 - 2. 625
 - 3. 545
 - 4. 735

Question ID : 630680896512
Option 1 ID : 6306803512019
Option 2 ID : 6306803512020
Option 3 ID : 6306803512022
Option 4 ID : 6306803512021

Q.12 निम्नलिखित जानकारी को ध्यानपूर्वक पढ़िए और उसके बाद दिए गए प्रश्न का उत्तर दीजिए।

'C ÷ D' का अर्थ है कि, 'C, D की पत्नी है'।

'C - D' का अर्थ है कि, 'C, D का पुत्र है'।

'C + D' का अर्थ है कि, 'C, D की माता है'।

'C × D' का अर्थ है कि, 'C, D की पुत्री है'।

व्यंजक 'U ÷ P - Q + S × R - W' में, R का U से क्या संबंध है?

- Ans
- 1. पिता
 - 2. पुत्र
 - 3. दामाद
 - 4. ससुर

Question ID : 630680896502
Option 1 ID : 6306803511980
Option 2 ID : 6306803511979
Option 3 ID : 6306803511981
Option 4 ID : 6306803511982

Q.13 अंग्रेजी वर्णमाला क्रम के आधार पर, निम्नलिखित चार अक्षर-समूह युग्मों में से तीन किसी निश्चित तरीके से एकसमान हैं तथा इस प्रकार एक समूह बनाते हैं। कौन-सा अक्षर-समूह युग्म, उस समूह से संबंधित नहीं है?
(नोट: असंगत अक्षर-समूह युग्म, व्यंजनों/स्वरों की संख्या या अक्षर-समूह में उनकी स्थिति पर आधारित नहीं है।)

- Ans**
- ✓ 1. UMBRA : BSCNW
 - ✗ 2. CHAIR : SJBID
 - ✗ 3. MAGIC : DJHBN
 - ✗ 4. HORSE : FTSPI

Question ID : 630680896506
Option 1 ID : 6306803511996
Option 2 ID : 6306803511995
Option 3 ID : 6306803511998
Option 4 ID : 6306803511997

Q.14 उस विकल्प का चयन कीजिए जिसमें संख्याएँ उसी प्रकार संबंधित हैं जिस प्रकार दिए गए समूह में संख्याएँ संबंधित हैं।

(56, 78, 67)

(119, 165, 142)

- Ans**
- ✗ 1. (365, 78, 182)
 - ✓ 2. (234, 122, 178)
 - ✗ 3. (99, 33, 88)
 - ✗ 4. (456, 193, 282)

Question ID : 630680896517
Option 1 ID : 6306803512039
Option 2 ID : 6306803512041
Option 3 ID : 6306803512040
Option 4 ID : 6306803512042

Q.15 संख्याओं के चार समुच्चय दिए गए हैं, जिनमें से तीन किसी प्रकार से एकसमान हैं और एक असंगत है। असंगत युग्म का चयन कीजिए।

- Ans**
- ✗ 1. (59, 44)
 - ✗ 2. (88, 73)
 - ✗ 3. (32, 17)
 - ✓ 4. (97, 79)

Question ID : 630680896518
Option 1 ID : 6306803512045
Option 2 ID : 6306803512044
Option 3 ID : 6306803512046
Option 4 ID : 6306803512043

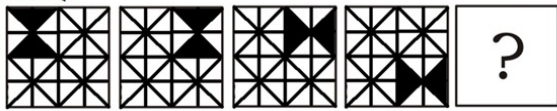
Q.16 विद्यार्थियों की एक पंक्ति में, जॉन बाएँ छोर से 15वें स्थान पर है और बॉब दाएँ छोर से 40वें स्थान पर है। जब वे अपना स्थान परस्पर बदलते हैं, तो जॉन बाएँ छोर से 30वें स्थान पर आ जाता है। दाएँ छोर से बॉब का नया स्थान ज्ञात कीजिए।

- Ans
- ✓ 1. 55वाँ
 - ✗ 2. 54वाँ
 - ✗ 3. 25वाँ
 - ✗ 4. 24वाँ

Question ID : 630680896499
Option 1 ID : 6306803511968
Option 2 ID : 6306803511967
Option 3 ID : 6306803511969
Option 4 ID : 6306803511970




Q.17 दिए गए विकल्पों में से उस आकृति का चयन कीजिए जो निम्नलिखित श्रृंखला में प्रश्न-चिह्न (?) के स्थान पर आ सकती है।



Ans

✓ 1.



✗ 2.



✗ 3.



✗ 4.



Question ID : 630680896510
 Option 1 ID : 6306803512014
 Option 2 ID : 6306803512012
 Option 3 ID : 6306803512013
 Option 4 ID : 6306803512011

Q.18 निम्नलिखित अक्षर, संख्या और प्रतीक श्रृंखला को देखिए और उसके बाद दिए गए प्रश्न का उत्तर दीजिए। गणना केवल बाईं ओर से दाईं ओर की जानी चाहिए।

(बाएँ) S & 4 G 6 4 R \$ % E 1 % @ K 9 T 6 \$ M # \$ 8 7 ^ 2 Q 2 * N 6 8 (दाएँ)

ऐसे कितने प्रतीक हैं जिनमें से प्रत्येक के ठीक पहले एक संख्या और ठीक बाद एक अक्षर है?

- Ans
- ✓ 1. दो
 - ✗ 2. तीन
 - ✗ 3. एक
 - ✗ 4. चार

Question ID : 630680896504
Option 1 ID : 6306803511989
Option 2 ID : 6306803511988
Option 3 ID : 6306803511987
Option 4 ID : 6306803511990

Q.19 अंग्रेजी वर्णमाला क्रम के आधार पर, निम्नलिखित चार अक्षर-समूहों में से तीन एक निश्चित तरीके से एकसमान हैं और इस प्रकार एक समूह बनाते हैं। कौन-सा अक्षर-समूह, उस समूह से संबंधित नहीं है?

(नोट: असंगत अक्षर-समूह, व्यंजनों/स्वरों की संख्या या अक्षर-समूह में उनकी स्थिति पर आधारित नहीं है।)

- Ans
- ✓ 1. OQST
 - ✗ 2. IKMO
 - ✗ 3. BDFH
 - ✗ 4. PRTV

Question ID : 630680896507
Option 1 ID : 6306803512002
Option 2 ID : 6306803512000
Option 3 ID : 6306803511999
Option 4 ID : 6306803512001

Q.20 इस प्रश्न में शब्दों का एक युग्म है जिनका एक-दूसरे से एक निश्चित संबंध है। उस युग्म का चयन कीजिए जिसमें समान संबंध हो।

(शब्दों को सार्थक हिंदी शब्दों के रूप में समझा जाना चाहिए और शब्द में अक्षरों/व्यंजनों/स्वरों की संख्या के आधार पर उन्हें एक-दूसरे से संबंधित नहीं होना चाहिए।)

मूर्तिकार: छेनी

- Ans
- ✗ 1. सर्जन : कन्नी
 - ✗ 2. दंत-चिकित्सक : रिंच
 - ✗ 3. प्लम्बर : स्केलपेल
 - ✓ 4. बढ़ई : आरी

Question ID : 630680896505
Option 1 ID : 6306803511993
Option 2 ID : 6306803511991
Option 3 ID : 6306803511992
Option 4 ID : 6306803511994

Q.1 निम्नलिखित में से कौन-सी नदी भारत का दूसरा सबसे बड़ा झरना बनाती है, जिसे शिवसमुद्रम के नाम से जाना जाता है?

- Ans
- 1. महानदी
 - 2. कावेरी
 - 3. गोदावरी
 - 4. कृष्णा

Question ID : 630680896239
Option 1 ID : 6306803510967
Option 2 ID : 6306803510969
Option 3 ID : 6306803510970
Option 4 ID : 6306803510968

Q.2 जनगणना 2011 के अनुसार, भारत में साक्षरता दर के संबंध में निम्नलिखित में से कौन-सा/से कथन सही है/हैं?

- I. देश में साक्षरता दर 74.04% थी।
- II. पुरुषों की साक्षरता दर 82.14% थी।
- III. महिलाओं की साक्षरता दर पुरुषों की तुलना में अधिक थी।

- Ans
- 1. केवल II और III
 - 2. केवल I और II
 - 3. केवल I
 - 4. केवल III

Question ID : 630680896242
Option 1 ID : 6306803510982
Option 2 ID : 6306803510981
Option 3 ID : 6306803510979
Option 4 ID : 6306803510980

Q.3 Deficiency of which of the following vitamins causes rickets in children?

- Ans
- 1. Vitamin C
 - 2. Vitamin D
 - 3. Vitamin E
 - 4. Vitamin A

Question ID : 630680896246
Option 1 ID : 6306803510996
Option 2 ID : 6306803510997
Option 3 ID : 6306803510998
Option 4 ID : 6306803510995

Q.4 वित्तीय विधेयक के संबंध में निम्नलिखित में से कौन-सा/से कथन सही है/हैं?
 कथन 1: धन विधेयक के अलावा अन्य वित्तीय विधेयक अनुच्छेद 117 के अंतर्गत आते हैं।
 कथन 2: उपबंध (2) के दायरे में आने वाला वित्तीय विधेयक केवल लोकसभा में पेश किया जा सकता है।
 कथन 3: उपबंध (3) के दायरे में आने वाला वित्तीय विधेयक संसद के किसी भी सदन में पेश किया जा सकता है।

- Ans
- 1. केवल 1 और 2
 - 2. केवल 3
 - 3. केवल 1 और 3
 - 4. केवल 2

Question ID : 630680896244
 Option 1 ID : 6306803510987
 Option 2 ID : 6306803510988
 Option 3 ID : 6306803510989
 Option 4 ID : 6306803510990

Q.5 RO Water Purifying System' में 'RO' का पूर्ण रूप क्या है?

- Ans
- 1. Reverse Osmosis (रिवर्स ऑस्मोसिस)
 - 2. Recover Osmosis (रिकवर ऑस्मोसिस)
 - 3. Reserve Osmosis (रिज़र्व ऑस्मोसिस)
 - 4. Reverse Orientation (रिवर्स ओरिएंटेशन)

Question ID : 630680896247
 Option 1 ID : 6306803510999
 Option 2 ID : 6306803511002
 Option 3 ID : 6306803511001
 Option 4 ID : 6306803511000

Q.6 वह युद्ध जो दक्षिणी भारत से बाहर और बंगाल में फैला, जहां रॉबर्ट क्लाइव के नेतृत्व में ब्रिटिश सेना ने फ्रांसीसी समर्थन प्राप्त नवाब सिराजुद-दौला से कलकत्ता पर पुनः आधिपत्य प्राप्त किया, _____ था।

- Ans
- 1. 1757 का प्लासी का युद्ध
 - 2. 1760 का वांडीवाश का युद्ध
 - 3. 1764 का बक्सर का युद्ध
 - 4. 1746 का अडयार का युद्ध

Question ID : 630680896234
 Option 1 ID : 6306803510949
 Option 2 ID : 6306803510947
 Option 3 ID : 6306803510948
 Option 4 ID : 6306803510950

Q.7 निम्नलिखित में से कौन-सा/से कथन सत्य है/हैं?

1. सर्वोच्च न्यायालय के मुख्य न्यायाधीश और अन्य न्यायाधीशों की नियुक्ति भारत के राष्ट्रपति द्वारा की जाती है।
2. सर्वोच्च न्यायालय के न्यायाधीश के पद पर रह चुके किसी भी व्यक्ति को भारत के क्षेत्र के भीतर किसी भी अदालत में या किसी प्राधिकारी के समक्ष वकील के रूप में पैरवी करने की अनुमति नहीं है।
3. सर्वोच्च न्यायालय के न्यायाधीशों को संसद द्वारा समय-समय पर निर्धारित वेतन दिया जाता है।

- Ans
- 1. केवल 1 और 3
 - 2. 1, 2 और 3
 - 3. केवल 2
 - 4. केवल 1

Question ID : 630680896245
 Option 1 ID : 6306803510993
 Option 2 ID : 6306803510994
 Option 3 ID : 6306803510992
 Option 4 ID : 6306803510991

Q.8 चंद्रगुप्त द्वितीय के दरबार के निम्नलिखित कवियों में से मेघदूतम, अभिज्ञानशाकुंतलम और विक्रमोर्वशी किसकी साहित्यिक कृतियाँ हैं?

- Ans
- 1. शूद्रक
 - 2. बाणभट्ट
 - 3. कालिदास
 - 4. अमरसिंह

Question ID : 630680896235
 Option 1 ID : 6306803510954
 Option 2 ID : 6306803510951
 Option 3 ID : 6306803510952
 Option 4 ID : 6306803510953

Q.9 केंद्रीय मंत्रिमंडल ने 5 जनवरी, 2024 को ₹ _____ करोड़ की कुल लागत से वर्ष 2021-26 की अवधि के दौरान कार्यान्वयन के लिए पृथ्वी विज्ञान मंत्रालय की अति महत्वपूर्ण योजना "PRITHVI Vigyan (PRITHVI/पृथ्वी)" को मंजूरी दी है।

- Ans
- 1. 5400
 - 2. 5267
 - 3. 2544
 - 4. 4797

Question ID : 630680896229
 Option 1 ID : 6306803510929
 Option 2 ID : 6306803510930
 Option 3 ID : 6306803510927
 Option 4 ID : 6306803510928

Q.10 एशियाटिक सोसाइटी ऑफ बंगाल की स्थापना निम्नलिखित में से किस प्राच्यविद द्वारा 1784 में की गई थी?

- Ans
- 1. सर जॉर्ज हिलारो बालो
 - 2. सर वारेन हेस्टिंग्स
 - 3. सर जोनाथन डंकन
 - 4. सर विलियम जोन्स

Question ID : 630680896233
Option 1 ID : 6306803510945
Option 2 ID : 6306803510943
Option 3 ID : 6306803510944
Option 4 ID : 6306803510946

Q.11 इंदिरा पॉइंट, जिसे भारत का सबसे दक्षिणी छोर माना जाता है, निम्नलिखित में से किस द्वीप पर स्थित है?

- Ans
- 1. लिटिल अंडमान द्वीप
 - 2. कैम्बेल खाड़ी
 - 3. ग्रेट निकोबार द्वीप
 - 4. लॉन्ग आइलैंड

Question ID : 630680896240
Option 1 ID : 6306803510971
Option 2 ID : 6306803510973
Option 3 ID : 6306803510972
Option 4 ID : 6306803510974

Q.12 जनगणना 2011 के प्रयोजन के लिए, किसी व्यक्ति को साक्षर मानने के लिए न्यूनतम आयु क्या थी?

- Ans
- 1. 5 वर्ष
 - 2. 9 वर्ष
 - 3. 7 वर्ष
 - 4. 6 वर्ष

Question ID : 630680896241
Option 1 ID : 6306803510975
Option 2 ID : 6306803510978
Option 3 ID : 6306803510977
Option 4 ID : 6306803510976

Q.13 निवल एनपीए (NPA) 40% की पिछली उपरि सीमा से शून्य होने की स्थिति में, जनवरी 2024 में, रिज़र्व बैंक ने लाभांश भुगतान अनुपात की ऊपरी सीमा में _____ वृद्धि प्रस्तावित की।

- Ans
- 1. 50%
 - 2. 60%
 - 3. 35%
 - 4. 30%

Question ID : 630680896232
Option 1 ID : 6306803510941
Option 2 ID : 6306803510942
Option 3 ID : 6306803510940
Option 4 ID : 6306803510939

Q.14 नीलम सरन गौर की निम्नलिखित में से किस पुस्तक ने अंग्रेजी श्रेणी में साहित्य अकादमी पुरस्कार 2023 प्राप्त किया?

- Ans
- 1. 'व्हेन गॉड इज़ ए ट्रैवलर'
 - 2. 'रेक्युम इन रागा जानकी'
 - 3. 'थिंग्स टू लीव बिहाइंड'
 - 4. 'ऑल द लाइव्स वी नेवर लिव्ड'

Question ID : 630680896236
Option 1 ID : 6306803510955
Option 2 ID : 6306803510957
Option 3 ID : 6306803510956
Option 4 ID : 6306803510958

Q.15 हेमिस महोत्सव, जो गुरु पद्मसंभव की जयंती का प्रतीक है, निम्नलिखित में से किस राज्य/केंद्र शासित प्रदेश में मनाया जाता है?

- Ans
- 1. लद्दाख
 - 2. मिजोरम
 - 3. मणिपुर
 - 4. अरुणाचल प्रदेश

Question ID : 630680896238
Option 1 ID : 6306803510963
Option 2 ID : 6306803510964
Option 3 ID : 6306803510965
Option 4 ID : 6306803510966

Q.16 कोकबोरोक किस राज्य की आधिकारिक भाषा है?

- Ans
- 1. त्रिपुरा
 - 2. उत्तराखंड
 - 3. आंध्र प्रदेश
 - 4. कर्नाटक

Question ID : 630680896237
Option 1 ID : 6306803510959
Option 2 ID : 6306803510962
Option 3 ID : 6306803510961
Option 4 ID : 6306803510960

Q.17 भारतीय रिज़र्व बैंक (RBI) की मौद्रिक नीति समिति (MPC) द्वारा 8 दिसंबर 2023 को प्रमुख रेपो दर (key repo rate) में 25 आधार अंकों की बढ़ोतरी की गई है और जो वर्तमान में निम्नलिखित में से कितनी है?

- Ans
- 1. 6.25%
 - 2. 8%
 - 3. 6.75%
 - 4. 6.50%

Question ID : 630680896231
Option 1 ID : 6306803510935
Option 2 ID : 6306803510938
Option 3 ID : 6306803510937
Option 4 ID : 6306803510936

Q.18 निम्नलिखित में से किस राज्य ने हाल ही में इंदिरा गांधी प्यारी बहना सम्मान निधि योजना शुरू की है, जिसका उद्देश्य 18 वर्ष और उससे अधिक आयु की महिलाओं को ₹1,500 की मासिक पेंशन प्रदान करना है?

- Ans
- 1. पंजाब
 - 2. हिमाचल प्रदेश
 - 3. उत्तराखंड
 - 4. आंध्र प्रदेश

Question ID : 630680896230
Option 1 ID : 6306803510933
Option 2 ID : 6306803510931
Option 3 ID : 6306803510932
Option 4 ID : 6306803510934

Q.19 भारतीय संविधान ऐसे किसी भी व्यक्ति के लिए नागरिकता का प्रावधान करता है जो सामान्य तौर पर भारत के क्षेत्र में कम से कम _____ से निवास कर रहा हो।

- Ans
- 1. 4 वर्ष
 - 2. 5 वर्ष
 - 3. 3 वर्ष
 - 4. 2 वर्ष

Question ID : 630680896243
Option 1 ID : 6306803510985
Option 2 ID : 6306803510986
Option 3 ID : 6306803510984
Option 4 ID : 6306803510983

Q.20 जनवरी 2024 में FIH महिला हॉकी ओलंपिक क्वालीफायर निम्नलिखित में से किस भारतीय शहर में आयोजित किया गया था?

- Ans
- 1. भुवनेश्वर
 - 2. नई दिल्ली
 - 3. कोलकाता
 - 4. रांची

Question ID : 630680896228
Option 1 ID : 6306803510925
Option 2 ID : 6306803510924
Option 3 ID : 6306803510926
Option 4 ID : 6306803510923

Section : Arithmetical and Numerical Ability

Q.1 एक निश्चित धनराशि 2.5 वर्षों में ₹8,245 और 4 वर्षों में ₹9,112 हो जाती है। वार्षिक साधारण ब्याज की दर _____ है।

- Ans
- 1. 10.5%
 - 2. 8.0%
 - 3. 9.0%
 - 4. 8.5%

Question ID : 630680896530
Option 1 ID : 6306803512094
Option 2 ID : 6306803512091
Option 3 ID : 6306803512093
Option 4 ID : 6306803512092

Q.2 एक व्यक्ति के वेतन में 15% की कमी कर दी जाती है। उसके कम किए गए वेतन को कितने प्रतिशत बढ़ाया जाना चाहिए ताकि वह उसके मूल वेतन के बराबर हो जाए?

- Ans
- 1. $16\frac{11}{17}\%$
 - 2. $17\frac{11}{17}\%$
 - 3. $11\frac{7}{15}\%$
 - 4. $13\frac{11}{13}\%$

Question ID : 630680896537
Option 1 ID : 6306803512121
Option 2 ID : 6306803512122
Option 3 ID : 6306803512119
Option 4 ID : 6306803512120

Q.3 समान लंबाई की दो रेलगाड़ियाँ एक सिग्नल पोल को पार करने में क्रमशः 10 सेकंड और 14 सेकंड का समय लेती हैं। यदि प्रत्येक ट्रेन की लंबाई 280 m है, तो विपरीत दिशाओं में यात्रा करते समय वे कितने सेकंड में एक-दूसरे को पार कर लेंगी?

- Ans
- 1. $11\frac{2}{3}$
 - 2. $12\frac{2}{3}$
 - 3. $10\frac{2}{5}$
 - 4. $13\frac{2}{5}$

Question ID : 630680896545
Option 1 ID : 6306803512152
Option 2 ID : 6306803512153
Option 3 ID : 6306803512151
Option 4 ID : 6306803512154

Q.4 दी गई सारणी एक संगठन के विभिन्न विभागों में कर्मचारियों की कुल संख्या तथा महिलाओं और पुरुषों का प्रतिशत दर्शाती है। सारणी का अध्ययन करें और निम्नलिखित प्रश्न का उत्तर दें।

विभाग	कर्मचारियों की कुल संख्या	महिलाओं का %	पुरुषों का %
A	840	55	45
B	220	65	35
C	900	77	23
D	360	35	65
E	450	56	44
F	540	60	40

विभाग D में महिला कर्मचारियों की कुल संख्या विभाग B में पुरुष कर्मचारियों की कुल संख्या का लगभग कितना प्रतिशत है?

- Ans
- ✓ 1. 164%
 - ✗ 2. 157%
 - ✗ 3. 152%
 - ✗ 4. 147%

Question ID : 630680896535
 Option 1 ID : 6306803512114
 Option 2 ID : 6306803512113
 Option 3 ID : 6306803512112
 Option 4 ID : 6306803512111

Q.5 दो वस्तुओं A और B का लागत मूल्य समान है। A को 20% के लाभ पर बेचा जाता है और B को A के विक्रय मूल्य से ₹300 अधिक पर बेचा जाता है। यदि पूरे लेनदेन में 32% का शुद्ध लाभ होता है, तो प्रत्येक वस्तु का लागत मूल्य (₹ में) कितना है?

- Ans
- ✓ 1. 1,250
 - ✗ 2. 2,100
 - ✗ 3. 1,800
 - ✗ 4. 1,500

Question ID : 630680896539
 Option 1 ID : 6306803512127
 Option 2 ID : 6306803512130
 Option 3 ID : 6306803512129
 Option 4 ID : 6306803512128

Q.6 सुनील की आय सुजीत की आय से 20% अधिक है। सुनील और सुजीत क्रमशः ₹4,800 और ₹5,000 की बचत करते हैं। यदि सुनील का व्यय सुजीत की आय से 12% अधिक है, तो सुनील और सुजीत के कुल व्यय का 42% _____ है।

- Ans
- ✗ 1. ₹53,142
 - ✓ 2. ₹51,324
 - ✗ 3. ₹52,134
 - ✗ 4. ₹54,132

Question ID : 630680896538
 Option 1 ID : 6306803512125
 Option 2 ID : 6306803512123
 Option 3 ID : 6306803512124
 Option 4 ID : 6306803512126

Q.7 एक पिता और पुत्र की वर्तमान आयु का अनुपात 5:2 है और उनकी औसत आयु 35 वर्ष है। 5 वर्ष बाद उन दोनों की आयु का अनुपात क्या होगा?

- Ans
- ✗ 1. 5 : 11
 - ✗ 2. 13 : 7
 - ✗ 3. 7 : 13
 - ✓ 4. 11 : 5

Question ID : 630680896542
 Option 1 ID : 6306803512139
 Option 2 ID : 6306803512142
 Option 3 ID : 6306803512141
 Option 4 ID : 6306803512140

Q.8 A और B ने 5:3 के अनुपात में अपनी पूंजी निवेश करके एक व्यवसाय शुरू किया। 5 महीने के बाद, B ने अपनी पूंजी का एक तिहाई हिस्सा निकाल लिया और A ने अपनी पूंजी का 40% का और निवेश किया। वर्ष के अंत में, यदि कुल लाभ ₹25.75 लाख था, तो A का हिस्सा (₹ लाख में) _____ था।

- Ans
- ✗ 1. 16.5
 - ✗ 2. 22.2
 - ✗ 3. 14.4
 - ✓ 4. 18.5

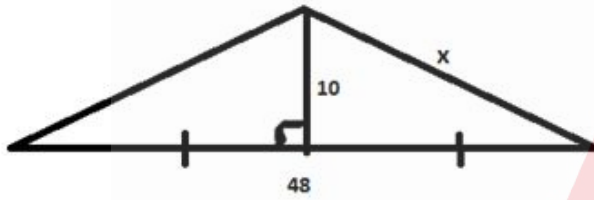
Question ID : 630680896543
 Option 1 ID : 6306803512144
 Option 2 ID : 6306803512146
 Option 3 ID : 6306803512143
 Option 4 ID : 6306803512145

Q.9 $1\frac{1}{2}$ वर्ष के लिए 16% वार्षिक दर से एक निश्चित धनराशि पर अर्धवार्षिक रूप से संयोजित ब्याज और वार्षिक रूप से संयोजित ब्याज का अंतर ₹69.12 है। धनराशि (₹ में) ज्ञात करें।

- Ans
- ✗ 1. 11,500
 - ✓ 2. 10,000
 - ✗ 3. 12,000
 - ✗ 4. 10,500

Question ID : 630680896532
 Option 1 ID : 6306803512101
 Option 2 ID : 6306803512099
 Option 3 ID : 6306803512102
 Option 4 ID : 6306803512100

Q.10 दी गई आकृति का परिमाण ज्ञात कीजिए।



- Ans
- ✗ 1. 80 इकाई
 - ✗ 2. 75 इकाई
 - ✗ 3. 90 इकाई
 - ✓ 4. 100 इकाई

Question ID : 630680896546
 Option 1 ID : 6306803512156
 Option 2 ID : 6306803512155
 Option 3 ID : 6306803512157
 Option 4 ID : 6306803512158

Q.11 12 पुरुष एक काम को 36 दिनों में पूरा कर सकते हैं और 20 महिलाएं उसी काम को 25 दिनों में पूरा कर सकती हैं। 8 पुरुषों ने काम शुरू किया और 6 दिनों के बाद 10 महिलाएं उनके साथ जुड़ गईं। वे कुल कार्य कितने दिनों में पूरा कर सकते हैं?

Ans

✗ 1. $13\frac{1}{29}$

✗ 2. $14\frac{1}{13}$

✗ 3. $24\frac{7}{13}$

✓ 4. $29\frac{1}{13}$

Question ID : 630680896544

Option 1 ID : 6306803512149

Option 2 ID : 6306803512147

Option 3 ID : 6306803512148

Option 4 ID : 6306803512150

Q.12 एक मैकेनिक एक स्कूटर को उसके अंकित मूल्य ₹22,000 पर 12%, x% और 10% की क्रमागत तीन छूट देने के बाद ₹16,030.08 में बेचता है। यदि इसके बजाय, इसे 2x% की एकल छूट पर बेचा जाए, तो इसका विक्रय मूल्य (₹ में) _____ होगा।

Ans

✗ 1. 16,980

✗ 2. 18,840

✓ 3. 18,480

✗ 4. 14,880

Question ID : 630680896541

Option 1 ID : 6306803512136

Option 2 ID : 6306803512138

Option 3 ID : 6306803512137

Option 4 ID : 6306803512135

Q.13 एक निश्चित धनराशि 12% वार्षिक चक्रवृद्धि ब्याज दर पर 2 वर्षों में ₹27,440 हो जाती है। यदि ब्याज अर्ध-वार्षिक रूप से संयोजित किया जाता है, तो समान अवधि के लिए ब्याज की दोगुनी दर पर चक्रवृद्धि ब्याज (₹ में) लगभग कितना होगा?

Ans

✓ 1. 12,546

✗ 2. 10,645

✗ 3. 11,456

✗ 4. 10,465

Question ID : 630680896531

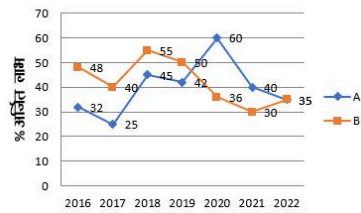
Option 1 ID : 6306803512098

Option 2 ID : 6306803512096

Option 3 ID : 6306803512097

Option 4 ID : 6306803512095

Q.14 निम्नलिखित रेखा-ग्राफ 2016 से 2022 की अवधि के दौरान दो कंपनियों A और B द्वारा अर्जित प्रतिशत लाभ को दर्शाता है।



$$\text{लाभ \%} = \frac{\text{अर्जित लाभ}}{\text{कुल निवेश}} \times 100\%$$

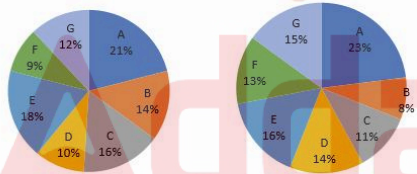
यदि 2021 में दोनों कंपनियों द्वारा निवेश की गई कुल धनराशि ₹27 लाख थी, जबकि कंपनी B द्वारा निवेश की गई राशि, कंपनी A द्वारा निवेश की गई राशि का 50% थी, तो उस वर्ष दोनों कंपनियों द्वारा अर्जित कुल लाभ (₹ लाख में) कितना था?

- Ans
- ✗ 1. 10.8
 - ✓ 2. 9.9
 - ✗ 3. 8.4
 - ✗ 4. 10.2

Question ID : 630680896534
 Option 1 ID : 6306803512110
 Option 2 ID : 6306803512108
 Option 3 ID : 6306803512107
 Option 4 ID : 6306803512109

Q.15 निम्नलिखित पाई चार्ट एक शहर में 7 विभिन्न संस्थानों A, B, C, D, E, F और G में स्नातक और स्नातकोत्तर स्तर के छात्रों के वितरण को दर्शाते हैं।

स्नातक स्तर पर छात्रों की कुल संख्या = 25,600 स्नातकोत्तर स्तर पर छात्रों की कुल संख्या = 19,200



संस्थान D और F में स्नातकोत्तर स्तर पर पढ़ने वाले छात्रों की कुल संख्या का संस्थान A और C में स्नातक स्तर पर पढ़ने वाले छात्रों की कुल संख्या से अनुपात क्या है?

- Ans
- ✗ 1. 3 : 4
 - ✓ 2. 81 : 148
 - ✗ 3. 4 : 3
 - ✗ 4. 148 : 81

Question ID : 630680896533
 Option 1 ID : 6306803512103
 Option 2 ID : 6306803512105
 Option 3 ID : 6306803512104
 Option 4 ID : 6306803512106

Q.16 15 व्यक्तियों में से, 9 व्यक्तियों में से प्रत्येक ने अपने भोजन पर ₹60 खर्च किए, जबकि शेष व्यक्तियों ने सभी 15 व्यक्तियों के औसत व्यय से ₹30 अधिक खर्च किए। उन सभी के द्वारा खर्च की गई कुल धनराशि (₹ में) _____ थी।

- Ans
- ✓ 1. 1,200
 - ✗ 2. 1,500
 - ✗ 3. 1,000
 - ✗ 4. 900

Question ID : 630680896528
Option 1 ID : 6306803512085
Option 2 ID : 6306803512086
Option 3 ID : 6306803512084
Option 4 ID : 6306803512083

Q.17 5 वर्ष पहले एक पति, उसकी पत्नी और उसके बेटे की औसत आयु 31 वर्ष थी और 8 वर्ष पहले उसकी पत्नी और उसके बेटे की औसत आयु 25 वर्ष थी। तो, पति की वर्तमान आयु (वर्षों में) _____ है।

- Ans
- ✗ 1. 36
 - ✗ 2. 54
 - ✓ 3. 42
 - ✗ 4. 66

Question ID : 630680896529
Option 1 ID : 6306803512087
Option 2 ID : 6306803512089
Option 3 ID : 6306803512088
Option 4 ID : 6306803512090

Q.18 एक हार्ड ड्राइव का क्रय मूल्य एक पेन ड्राइव के क्रय मूल्य से ₹3,600 अधिक है। यदि हार्ड ड्राइव को 8% हानि पर और पेन ड्राइव को 182% लाभ पर बेचा जाता है, तो पूरे लेनदेन में 12% का लाभ होता है। हार्ड ड्राइव का मूल क्रय मूल्य (₹ में) कितना है?

- Ans
- ✗ 1. 3,800
 - ✗ 2. 3,600
 - ✗ 3. 480
 - ✓ 4. 4,080

Question ID : 630680896540
Option 1 ID : 6306803512133
Option 2 ID : 6306803512132
Option 3 ID : 6306803512131
Option 4 ID : 6306803512134

Q.19 यदि किसी धातु के ठोस गोले की त्रिज्या 8.5 cm बढ़ा दी जाए, तो उसका पृष्ठीय क्षेत्रफल $1479\pi \text{ cm}^2$ बढ़ जाता है। यदि धातु का घनत्व 0.15 g/cm^3 है, तो मूल गोले का लगभग भार (kg में) _____ है। ($\pi = \frac{22}{7}$ का प्रयोग करें)।

- Ans
- ✓ 1. 3.37
 - ✗ 2. 5.73
 - ✗ 3. 4.12
 - ✗ 4. 6.27

Question ID : 630680896547
 Option 1 ID : 6306803512159
 Option 2 ID : 6306803512161
 Option 3 ID : 6306803512160
 Option 4 ID : 6306803512162

Q.20 यदि $47x6290y6$ एक ऐसी 9 अंकों की संख्या है जो 88 से विभाज्य है, तो निम्नलिखित में से कौन सा विकल्प $(x+y)$ का मान हो सकता है?

- Ans
- ✗ 1. 12
 - ✗ 2. 19
 - ✗ 3. 15
 - ✓ 4. 17

Question ID : 630680896536
 Option 1 ID : 6306803512115
 Option 2 ID : 6306803512118
 Option 3 ID : 6306803512116
 Option 4 ID : 6306803512117

Section : Test of English Language and Comprehension

Q.1 Select the most appropriate meaning of the given proverb.

Don't judge a book by its cover

- Ans
- ✓ 1. Don't judge someone or something by appearance alone
 - ✗ 2. Don't be afraid to give your honest opinion to anyone
 - ✗ 3. Make use of every opportunity that comes your way
 - ✗ 4. Check carefully before you buy anything

Question ID : 630680896214
 Option 1 ID : 6306803510873
 Option 2 ID : 6306803510872
 Option 3 ID : 6306803510874
 Option 4 ID : 6306803510871

Q.2 Select the most appropriate option to fill in the blank.

The tomatoes rolled off into all corners of the shop _____ the bag was torn.

- Ans 1. because
 2. while
 3. though
 4. but

Question ID : 630680896208
Option 1 ID : 6306803510849
Option 2 ID : 6306803510847
Option 3 ID : 6306803510848
Option 4 ID : 6306803510850

Q.3 Find the one-word that means the same as the underlined group of words.

Gymnastics as a sport is one that is _____ (relates to one particular different or original person than to a group or team).

- Ans 1. peculiar
 2. common
 3. individualistic
 4. irregular

Question ID : 630680896210
Option 1 ID : 6306803510858
Option 2 ID : 6306803510856
Option 3 ID : 6306803510857
Option 4 ID : 6306803510855

Q.4 Select the segment which has a spelling error in the given sentence. If there is no error, select 'No error'.

These stations play a critical role in fasilitating communication, data transfer, tracking and control during the crucial early stages of a satellite's journey to orbit.

- Ans 1. These stations play a critical role in fasilitating communication
 2. the crucial early stages of a satellite's journey to orbit
 3. data transfer, tracking and control during
 4. No error

Question ID : 630680896218
Option 1 ID : 6306803510887
Option 2 ID : 6306803510889
Option 3 ID : 6306803510888
Option 4 ID : 6306803510890

Q.5 Given below are four jumbled sentences. Select the option that gives their correct order forming a meaningful and coherent paragraph.

- A. Left untreated, a speech impediment can make it difficult for children to learn to read and write.
- B . Children with speech impediments might also have trouble socializing.
- C. Speech impediment, or speech disorder, happens when your child can't speak at all, or can't speak so people understand what they're saying.
- D. In some cases, a speech impediment is a sign of physical or developmental differences.

- Ans 1. CDAB
2. BCAD
3. CBAD
4. BDCA

Question ID : 630680896209
Option 1 ID : 6306803510852
Option 2 ID : 6306803510854
Option 3 ID : 6306803510853
Option 4 ID : 6306803510851

Q.6 Select the most appropriate option to fill in the blank.

Be careful to close the door _____, it makes a loud sound if it bangs.

- Ans 1. slowly
2. loosely
3. easily
4. freely

Question ID : 630680896207
Option 1 ID : 6306803510844
Option 2 ID : 6306803510843
Option 3 ID : 6306803510846
Option 4 ID : 6306803510845

Q.7 Select the most appropriate antonym of the given word.

PRETENSE

- Ans 1. exasperation
2. reality
3. impatience
4. intensity

Question ID : 630680896215
Option 1 ID : 6306803510877
Option 2 ID : 6306803510878
Option 3 ID : 6306803510875
Option 4 ID : 6306803510876

Q.8 Select the most appropriate synonym of the given word.

ZENITH

- Ans
- 1. foundation
 - 2. nadir
 - 3. summit
 - 4. establishment

Question ID : 630680896216
Option 1 ID : 6306803510881
Option 2 ID : 6306803510879
Option 3 ID : 6306803510880
Option 4 ID : 6306803510882

Q.9 Find the one-word that means the same as the underlined group of words.

Sudha is frequently visiting doctors to get medicines for her _____ cough.
(continuing or occurring again and again for a long time)

- Ans
- 1. perilous
 - 2. permanent
 - 3. persistent
 - 4. pursuant

Question ID : 630680896211
Option 1 ID : 6306803510862
Option 2 ID : 6306803510861
Option 3 ID : 6306803510860
Option 4 ID : 6306803510859

Q.10 Select the most appropriate meaning of the given idiom.

To give someone free rein means to give

- Ans
- 1. allow them to leave before everyone else
 - 2. the orders to ride a horse and go
 - 3. the freedom to do, say, or feel what they want
 - 4. training in horse riding

Question ID : 630680896212
Option 1 ID : 6306803510866
Option 2 ID : 6306803510863
Option 3 ID : 6306803510865
Option 4 ID : 6306803510864

Q.11 Select the most appropriate option to fill in the blank.

Rohit had _____ options left when he couldn't get a cab, he had to take a bus.

- Ans 1. much
 2. few
 3. enough
 4. little

Question ID : 630680896206
Option 1 ID : 6306803510842
Option 2 ID : 6306803510840
Option 3 ID : 6306803510841
Option 4 ID : 6306803510839

Q.12 Select the most appropriate meaning of the given idiom.

To call a spade a spade

- Ans 1. Know the names of tools
 2. Be friendly with the working-class people
 3. Speak plainly and openly
 4. Avoid taking any risks

Question ID : 630680896213
Option 1 ID : 6306803510867
Option 2 ID : 6306803510869
Option 3 ID : 6306803510870
Option 4 ID : 6306803510868

Q.13 Select the most appropriate option to fill in the blank.

It was _____ most crucial moment in her life.

- Ans 1. one
 2. the
 3. a
 4. an

Question ID : 630680896205
Option 1 ID : 6306803510837
Option 2 ID : 6306803510838
Option 3 ID : 6306803510835
Option 4 ID : 6306803510836

Q.14 Select the segment which has a spelling error in the given sentence. If there is no error, select 'No error'.

The effectiveness of a hair cream depends on the chosen ingrediants and your specific hair needs.

- Ans**
- 1. depends on the chosen ingrediants
 - 2. and your specific hair needs
 - 3. The effectiveness of a hair cream
 - 4. No error

Question ID : 630680896219
Option 1 ID : 6306803510892
Option 2 ID : 6306803510893
Option 3 ID : 6306803510891
Option 4 ID : 6306803510894

Q.15 Select the segment which has a spelling error in the given sentence. If there is no error, select 'No error'.

Any voilation of the order banning use of drinking water for gardening would attract a penalty of Rupees 5000/-the officials said.

- Ans**
- 1. Any voilation of the order banning use of
 - 2. drinking water for gardening would attract
 - 3. No error
 - 4. a penalty of Rupees 5000/-the officials said

Question ID : 630680896217
Option 1 ID : 6306803510883
Option 2 ID : 6306803510884
Option 3 ID : 6306803510886
Option 4 ID : 6306803510885

Comprehension:

Read the following passage and answer the questions.

Crying over spilt milk is futile. Crocodile tears are fake and manipulative. Crying wolf too is false, and dangerous. Indulging in any of the above would be a 'crying shame'; the most reprehensible behaviour. And those blubbing Everly Brothers? Leave 'em to their cryin' in the rain! There's no place in polite society for exposure that private. Nothing good's ever said about shedding a tear; our intrinsically human emissions of joy, sadness, and frustration. Because nothing good can come of it, or so we've been convinced.

The patriarchy comes down hard on weeping. 'Big boys don't cry' they command, insisting lads 'man up' and plough on amidst upheavals, without examination or even acknowledgement of their emotions. Our dammed-up waterworks then trickle into every niche and crevice, not just of our bodies but the body-politic, poisoning it like slow-acting arsenic. Didn't large-scale, pent-up resentments result in two World Wars, don't they even now trigger mass turmoil?

When 'celebs', especially male, break down in public, such as Cristiano Ronaldo or Novak Djokovic, derision is generally rained down upon them, as if Charles Dickens hadn't reprimanded, "Heaven knows we need never be ashamed of our tears, for they are rain upon the blinding dust of earth..." or Justin Timberlake wailed, "Cry me a river", unequivocally encouraging his brethren. Yet, strong women too are exhorted to never give in to such 'womanly' infirmity, or be forever stereotyped as 'the weaker sex'. Growing up in a house full of stern women, I was taught not to snivel (even the sound of words that denote crying repel!). Learning to walk in infancy, I already knew I should hold back the tears when I fell and scraped my knee. My formidable foremothers intended to build character, but I wonder now if they would have stood me in better stead by allowing me to express anguish.

SubQuestion No : 16

Q.16 Which word in the passage means the same as 'admonish'?

- Ans**
- 1. exhort
 - 2. turmoil
 - 3. reprimand
 - 4. snivel

Question ID : 630680896223
Option 1 ID : 6306803510905
Option 2 ID : 6306803510904
Option 3 ID : 6306803510903
Option 4 ID : 6306803510906

Comprehension:

Read the following passage and answer the questions.

Crying over spilt milk is futile. Crocodile tears are fake and manipulative. Crying wolf too is false, and dangerous. Indulging in any of the above would be a 'crying shame'; the most reprehensible behaviour. And those blubbing Everly Brothers? Leave 'em to their cryin' in the rain! There's no place in polite society for exposure that private. Nothing good's ever said about shedding a tear; our intrinsically human emissions of joy, sadness, and frustration. Because nothing good can come of it, or so we've been convinced.

The patriarchy comes down hard on weeping. 'Big boys don't cry' they command, insisting lads 'man up' and plough on amidst upheavals, without examination or even acknowledgement of their emotions. Our dammed-up waterworks then trickle into every niche and crevice, not just of our bodies but the body-politic, poisoning it like slow-acting arsenic. Didn't large-scale, pent-up resentments result in two World Wars, don't they even now trigger mass turmoil?

When 'celebs', especially male, break down in public, such as Cristiano Ronaldo or Novak Djokovic, derision is generally rained down upon them, as if Charles Dickens hadn't reprimanded, "Heaven knows we need never be ashamed of our tears, for they are rain upon the blinding dust of earth..." or Justin Timberlake wailed, "Cry me a river", unequivocally encouraging his brethren. Yet, strong women too are exhorted to never give in to such 'womanly' infirmity, or be forever stereotyped as 'the weaker sex'. Growing up in a house full of stern women, I was taught not to snivel (even the sound of words that denote crying repel!). Learning to walk in infancy, I already knew I should hold back the tears when I fell and scraped my knee. My formidable foremothers intended to build character, but I wonder now if they would have stood me in better stead by allowing me to express anguish.

SubQuestion No : 17

Q.17 The tone of the passage is

- Ans**
- 1. moralistic
 - 2. threatening
 - 3. sarcastic
 - 4. melancholy

Question ID : 630680896225
Option 1 ID : 6306803510911
Option 2 ID : 6306803510914
Option 3 ID : 6306803510912
Option 4 ID : 6306803510913

Comprehension:

Read the following passage and answer the questions.

Crying over spilt milk is futile. Crocodile tears are fake and manipulative. Crying wolf too is false, and dangerous. Indulging in any of the above would be a 'crying shame'; the most reprehensible behaviour. And those blubbing Everly Brothers? Leave 'em to their cryin' in the rain! There's no place in polite society for exposure that private. Nothing good's ever said about shedding a tear; our intrinsically human emissions of joy, sadness, and frustration. Because nothing good can come of it, or so we've been convinced.

The patriarchy comes down hard on weeping. 'Big boys don't cry' they command, insisting lads 'man up' and plough on amidst upheavals, without examination or even acknowledgement of their emotions. Our dammed-up waterworks then trickle into every niche and crevice, not just of our bodies but the body-politic, poisoning it like slow-acting arsenic. Didn't large-scale, pent-up resentments result in two World Wars, don't they even now trigger mass turmoil?

When 'celebs', especially male, break down in public, such as Cristiano Ronaldo or Novak Djokovic, derision is generally rained down upon them, as if Charles Dickens hadn't reprimanded, "Heaven knows we need never be ashamed of our tears, for they are rain upon the blinding dust of earth..." or Justin Timberlake wailed, "Cry me a river", unequivocally encouraging his brethren. Yet, strong women too are exhorted to never give in to such 'womanly' infirmity, or be forever stereotyped as 'the weaker sex'. Growing up in a house full of stern women, I was taught not to snivel (even the sound of words that denote crying repel!). Learning to walk in infancy, I already knew I should hold back the tears when I fell and scraped my knee. My formidable foremothers intended to build character, but I wonder now if they would have stood me in better stead by allowing me to express anguish.

SubQuestion No : 18

Q.18 The most appropriate antonym of the word "intrinsically"

- Ans**
- 1. fundamentally
 - 2. ultimately
 - 3. superficially
 - 4. eventually

Question ID : 630680896224
Option 1 ID : 6306803510908
Option 2 ID : 6306803510909
Option 3 ID : 6306803510907
Option 4 ID : 6306803510910

Comprehension:

Read the following passage and answer the questions.

Crying over spilt milk is futile. Crocodile tears are fake and manipulative. Crying wolf too is false, and dangerous. Indulging in any of the above would be a 'crying shame'; the most reprehensible behaviour. And those blubbing Everly Brothers? Leave 'em to their cryin' in the rain! There's no place in polite society for exposure that private. Nothing good's ever said about shedding a tear; our intrinsically human emissions of joy, sadness, and frustration. Because nothing good can come of it, or so we've been convinced.

The patriarchy comes down hard on weeping. 'Big boys don't cry' they command, insisting lads 'man up' and plough on amidst upheavals, without examination or even acknowledgement of their emotions. Our dammed-up waterworks then trickle into every niche and crevice, not just of our bodies but the body-politic, poisoning it like slow-acting arsenic. Didn't large-scale, pent-up resentments result in two World Wars, don't they even now trigger mass turmoil?

When 'celebs', especially male, break down in public, such as Cristiano Ronaldo or Novak Djokovic, derision is generally rained down upon them, as if Charles Dickens hadn't reprimanded, "Heaven knows we need never be ashamed of our tears, for they are rain upon the blinding dust of earth..." or Justin Timberlake wailed, "Cry me a river", unequivocally encouraging his brethren. Yet, strong women too are exhorted to never give in to such 'womanly' infirmity, or be forever stereotyped as 'the weaker sex'. Growing up in a house full of stern women, I was taught not to snivel (even the sound of words that denote crying repel!). Learning to walk in infancy, I already knew I should hold back the tears when I fell and scraped my knee. My formidable foremothers intended to build character, but I wonder now if they would have stood me in better stead by allowing me to express anguish.

SubQuestion No : 19

Q.19 The most suitable title for this passage is

Ans ✓ 1. Crying: is it good or bad?

✗ 2. Strong people do not cry

✗ 3. Crying makes everyone sad

✗ 4. Views of great writers on crying

Question ID : 630680896221

Option 1 ID : 6306803510897

Option 2 ID : 6306803510895

Option 3 ID : 6306803510896

Option 4 ID : 6306803510898

Comprehension:

Read the following passage and answer the questions.

Crying over spilt milk is futile. Crocodile tears are fake and manipulative. Crying wolf too is false, and dangerous. Indulging in any of the above would be a 'crying shame'; the most reprehensible behaviour. And those blubbing Everly Brothers? Leave 'em to their cryin' in the rain! There's no place in polite society for exposure that private. Nothing good's ever said about shedding a tear; our intrinsically human emissions of joy, sadness, and frustration. Because nothing good can come of it, or so we've been convinced.

The patriarchy comes down hard on weeping. 'Big boys don't cry' they command, insisting lads 'man up' and plough on amidst upheavals, without examination or even acknowledgement of their emotions. Our dammed-up waterworks then trickle into every niche and crevice, not just of our bodies but the body-politic, poisoning it like slow-acting arsenic. Didn't large-scale, pent-up resentments result in two World Wars, don't they even now trigger mass turmoil?

When 'celebs', especially male, break down in public, such as Cristiano Ronaldo or Novak Djokovic, derision is generally rained down upon them, as if Charles Dickens hadn't reprimanded, "Heaven knows we need never be ashamed of our tears, for they are rain upon the blinding dust of earth..." or Justin Timberlake wailed, "Cry me a river", unequivocally encouraging his brethren. Yet, strong women too are exhorted to never give in to such 'womanly' infirmity, or be forever stereotyped as 'the weaker sex'. Growing up in a house full of stern women, I was taught not to snivel (even the sound of words that denote crying repel!). Learning to walk in infancy, I already knew I should hold back the tears when I fell and scraped my knee. My formidable foremothers intended to build character, but I wonder now if they would have stood me in better stead by allowing me to express anguish.

SubQuestion No : 20

Q.20 According to the writer who among the following openly supports weeping?

- Ans** 1. Justin Timberlake
 2. Charles Dickens
 3. Cristiano Ronaldo
 4. Novak Djokovic

Question ID : 630680896222
 Option 1 ID : 6306803510901
 Option 2 ID : 6306803510899
 Option 3 ID : 6306803510900
 Option 4 ID : 6306803510902

Section : Test of Hindi Language and Comprehension

Q.1 'लाली मिला हुआ काला रंग' के लिए सर्वोचित एक शब्द होगा--

- Ans** 1. नीला
 2. ऊदा
 3. रानी
 4. नारंगी

Question ID : 630680896369
 Option 1 ID : 6306803511453
 Option 2 ID : 6306803511451
 Option 3 ID : 6306803511454
 Option 4 ID : 6306803511452

Q.2 निम्न में से वाक्य विन्यास की दृष्टि से शुद्ध वाक्य का चयन कीजिए:-

- Ans
- 1. बंधुता का प्रकट करती है भाव संस्कृति व्यक्ति की गरिमा को प्रतिष्ठा प्रदान कर।
 - 2. बंधुता का भाव प्रकट करती है संस्कृति व्यक्ति की गरिमा को प्रतिष्ठा प्रदान कर।
 - 3. भाव प्रकट बंधुता का करती है संस्कृति व्यक्ति की गरिमा को प्रतिष्ठा प्रदान कर।
 - 4. संस्कृति व्यक्ति की गरिमा को प्रतिष्ठा प्रदान कर बंधुता का भाव प्रकट करती है।

Question ID : 630680896368
Option 1 ID : 6306803511449
Option 2 ID : 6306803511447
Option 3 ID : 6306803511448
Option 4 ID : 6306803511450

Q.3 दिए गए वाक्य में वर्तनी की दृष्टि से अशुद्ध शब्द की पहचान करें—

चंद्रमा की ज्योतसना में आज कुछ भिन्न ही उज्वलता है।

- Ans
- 1. भिन्न
 - 2. उज्वलता
 - 3. ज्योतसना
 - 4. चंद्रमा

Question ID : 630680896375
Option 1 ID : 6306803511477
Option 2 ID : 6306803511478
Option 3 ID : 6306803511476
Option 4 ID : 6306803511475

Q.4 सर्वोचित विशेषण शब्द से वाक्य का रिक्त स्थान पूर्ण करें-

कुछ भी _____ करने से पहले सौ बार सोचना चाहिए।

- Ans
- 1. झूठा
 - 2. आगामी
 - 3. अनुचित
 - 4. मोटा

Question ID : 630680896370
Option 1 ID : 6306803511455
Option 2 ID : 6306803511458
Option 3 ID : 6306803511457
Option 4 ID : 6306803511456

Q.5 सर्वोचित क्रिया-विशेषण शब्द से वाक्य का रिक्त स्थान पूर्ण करें-

ठंड बहुत है रात में इस तरह _____ न घूमों घर में बैठो।

- Ans
- 1. बाहर-भीतर
 - 2. तले-ऊपर
 - 3. इधर-उधर
 - 4. उधर-जिधर

Question ID : 630680896371
Option 1 ID : 6306803511461
Option 2 ID : 6306803511462
Option 3 ID : 6306803511459
Option 4 ID : 6306803511460

Q.6 दिए गए वाक्य में वर्तनी की दृष्टि से अशुद्ध शब्द की पहचान करें—

दिपिका वर्तमान समय की प्रसिद्ध अभिनेत्री है।

- Ans
- 1. वर्तमान
 - 2. दिपिका
 - 3. अभिनेत्री
 - 4. प्रसिद्ध

Question ID : 630680896376
Option 1 ID : 6306803511480
Option 2 ID : 6306803511479
Option 3 ID : 6306803511482
Option 4 ID : 6306803511481

Q.7 'होनहार बिरवान के होत चीकने पात' लोकोक्ति का अर्थ होगा--

- Ans
- 1. होनहार के लक्षण पहले से ही दिखायी पड़ने लगते हैं।
 - 2. बरगद के पेड़ के नये पत्ते चिकने होते हैं।
 - 3. होनी को कोई नहीं टाल सकता वो होकर रहती है।
 - 4. बुद्धिमान लोगों के पैर सुंदर होते हैं।

Question ID : 630680896373
Option 1 ID : 6306803511468
Option 2 ID : 6306803511467
Option 3 ID : 6306803511470
Option 4 ID : 6306803511469

Q.8 निम्न में से वाक्य विन्यास की दृष्टि से शुद्ध वाक्य का चयन कीजिए-

- Ans
- 1. मूल्य आचरण के सिद्धांतों को कहते हैं जो हमारी नैतिकता व परम्परा का विवेचन करते हैं।
 - 2. कहते हैं मूल्य आचरण के सिद्धांतों को जो हमारी नैतिकता व परम्परा का करते हैं विवेचन।
 - 3. मूल्य आचरण के सिद्धांतों को कहते हैं हमारी नैतिकता व परम्परा का विवेचन हैं करते जो।
 - 4. कहते हैं मूल्य आचरण के सिद्धांतों को जो हमारी नैतिकता व परम्परा का विवेचन करते हैं।

Question ID : 630680896367
Option 1 ID : 6306803511444
Option 2 ID : 6306803511446
Option 3 ID : 6306803511445
Option 4 ID : 6306803511443

Q.9 'उतर गई लोई तो क्या करेगा कोई' लोकोक्ति का अर्थ होगा--

- Ans 1. जब इज्जत ही नहीं है तो डर किसका
 2. बुरे समय पर कोई सहायता नहीं करता
 3. झूठ बहुत दिन छिपा नहीं रह सकता
 4. दिखावे से सुंदरता नहीं बढ़ती

Question ID : 630680896374
 Option 1 ID : 6306803511471
 Option 2 ID : 6306803511472
 Option 3 ID : 6306803511473
 Option 4 ID : 6306803511474

Q.10 'रात्रि' के पर्याय से वाक्य का रिक्त स्थान पूर्ण करें—

बीती _____ जाग सी!

- Ans 1. दामिनी
 2. यती
 3. शर्वरी
 4. अर्कजा

Question ID : 630680896379
 Option 1 ID : 6306803511493
 Option 2 ID : 6306803511492
 Option 3 ID : 6306803511491
 Option 4 ID : 6306803511494

Q.11 'कर्मठ' के विलोम से वाक्य पूर्ण करें—

तुम इतने _____ क्यों हो, जीवन में कुछ तो करो।

- Ans 1. निश्चल
 2. अकर्ममण्य
 3. निष्कर्म
 4. अनुदात्त

Question ID : 630680896380
 Option 1 ID : 6306803511497
 Option 2 ID : 6306803511496
 Option 3 ID : 6306803511495
 Option 4 ID : 6306803511498

Q.12 दिए गए वाक्य में वर्तनी की दृष्टि से अशुद्ध शब्द की पहचान करें—

कार्यालय के समारोह में आपकी उपस्थिति वांक्षनीय है।

- Ans
- 1. पस्थिति
 - 2. समारोह
 - 3. कार्यालय
 - 4. वांक्षनीय

Question ID : 630680896377
Option 1 ID : 6306803511485
Option 2 ID : 6306803511484
Option 3 ID : 6306803511483
Option 4 ID : 6306803511486

Q.13 'बाण' के पर्याय से वाक्य का रिक्त स्थान पूर्ण करें—

नायिका ने अपने नैनों के _____ चलाकर नायक को परास्त कर दिया।

- Ans
- 1. शर
 - 2. झष
 - 3. द्रुम
 - 4. नग

Question ID : 630680896378
Option 1 ID : 6306803511487
Option 2 ID : 6306803511489
Option 3 ID : 6306803511488
Option 4 ID : 6306803511490

Q.14 निम्न में से वाक्य विन्यास की दृष्टि से शुद्ध वाक्य का चयन कीजिए--

- Ans
- 1. मिलता है हर कवि की कविता में प्रकृति चित्रण सौंदर्य का प्रतिमान बनकर।
 - 2. सौंदर्य का प्रतिमान बनकर हर कवि की कविता में प्रकृति चित्रण मिलता है।
 - 3. प्रकृति चित्रण मिलता है सौंदर्य का प्रतिमान बनकर हर कवि की कविता में।
 - 4. कविता में प्रकृति चित्रण मिलता है सौंदर्य का प्रतिमान बनकर हर कवि की।

Question ID : 630680896366
Option 1 ID : 6306803511441
Option 2 ID : 6306803511439
Option 3 ID : 6306803511440
Option 4 ID : 6306803511442

Q.15 'मोम होना' मुहावरे का अर्थ होगा--

- Ans
- 1. चिकना होना
 - 2. दुर्बल होना
 - 3. कमज़ोर होना
 - 4. दयार्द्र होना

Question ID : 630680896372
Option 1 ID : 6306803511466
Option 2 ID : 6306803511463
Option 3 ID : 6306803511465
Option 4 ID : 6306803511464

Comprehension:

दिए गए गद्यांश के आधार पर प्रश्न के उत्तर दें—

आदिवासियों के विद्रोहों में संथालों का विद्रोह सबसे ज़बरदस्त था। भागलपुर से राजमहल के बीच का क्षेत्र दामन-ए-कोह के नाम से जाना जाता था। यहाँ हज़ारों संथालों ने संगठित विद्रोह किया। ज़मींदार, पुलिस, राजस्व विभाग और अदालतों ने संथालों पर बेइतहा जुल्म ढाए। संथालों को कर्ज़ देकर 50 से 500 फीसदी की दर से ब्याज़ वसूला जाता था। 1854 के आते-आते आदिवासी कसमसाने लगे। आदिवासियों के मुखिया मजलिस और परगणित बैठकें करने लगे और तैयारी शुरू हो गई खुले विद्रोह की। इनमें एक स्वर से निर्णय किया गया कि बाहरी लोगों को भगाने, विदेशियों का राज हमेशा के लिए खत्म कर सतयुग का राज – न्याय और धर्म पर अपना राज – स्थापित करने के लिए खुला विद्रोह किया जाए। संथालों को विश्वास था कि भगवान् उनके साथ है। विद्रोही आदिवासियों के दो प्रमुख नेता सीदो और कान्हू थे। इन्होंने घोषणा की कि ठाकुरजी (भगवान) ने उन्हें निर्देश दिया है कि आज़ादी के लिए अब हथियार उठा लो। विद्रोहियों ने महाजनों और ज़मींदारों पर हमला बोलना शुरू किया। उनके मकान जला डाले। लगभग उन सभी चीज़ों पर हमला किया, जो दिक्कू (गैर-आदिवासी) और उपनिवेशवादी सत्ता के शोषण के माध्यम थे।

SubQuestion No : 16

Q.16 गद्यांश के लिए सर्वोपयुक्त शीर्षक होगा-

- Ans 1. सीदो-कान्हू विद्रोह
 2. संथाल विद्रोह
 3. जाति विद्रोह
 4. आदिवासी विद्रोह

Question ID : 630680896383
 Option 1 ID : 6306803511505
 Option 2 ID : 6306803511506
 Option 3 ID : 6306803511504
 Option 4 ID : 6306803511503

Comprehension:

दिए गए गद्यांश के आधार पर प्रश्न के उत्तर दें—

आदिवासियों के विद्रोहों में संथालों का विद्रोह सबसे ज़बरदस्त था। भागलपुर से राजमहल के बीच का क्षेत्र दामन-ए-कोह के नाम से जाना जाता था। यहाँ हज़ारों संथालों ने संगठित विद्रोह किया। ज़मींदार, पुलिस, राजस्व विभाग और अदालतों ने संथालों पर बेइतहा जुल्म ढाए। संथालों को कर्ज़ देकर 50 से 500 फीसदी की दर से ब्याज़ वसूला जाता था। 1854 के आते-आते आदिवासी कसमसाने लगे। आदिवासियों के मुखिया मजलिस और परगणित बैठकें करने लगे और तैयारी शुरू हो गई खुले विद्रोह की। इनमें एक स्वर से निर्णय किया गया कि बाहरी लोगों को भगाने, विदेशियों का राज हमेशा के लिए खत्म कर सतयुग का राज – न्याय और धर्म पर अपना राज – स्थापित करने के लिए खुला विद्रोह किया जाए। संथालों को विश्वास था कि भगवान् उनके साथ है। विद्रोही आदिवासियों के दो प्रमुख नेता सीदो और कान्हू थे। इन्होंने घोषणा की कि ठाकुरजी (भगवान) ने उन्हें निर्देश दिया है कि आज़ादी के लिए अब हथियार उठा लो। विद्रोहियों ने महाजनों और ज़मींदारों पर हमला बोलना शुरू किया। उनके मकान जला डाले। लगभग उन सभी चीज़ों पर हमला किया, जो दिक्कू (गैर-आदिवासी) और उपनिवेशवादी सत्ता के शोषण के माध्यम थे।

SubQuestion No : 17

Q.17 गद्यांश के अनुसार विद्रोह का अभीष्ट नहीं था--

- Ans 1. न्याय और धर्म के राज की स्थापना
 2. धर्म के वर्चस्व की समाप्ति
 3. गैर आदिवासियों का निष्कासन
 4. अत्यधिक ब्याज़ पर अंकुश

Question ID : 630680896385
 Option 1 ID : 6306803511512
 Option 2 ID : 6306803511514
 Option 3 ID : 6306803511511
 Option 4 ID : 6306803511513

Comprehension:

दिए गए गद्यांश के आधार पर प्रश्न के उत्तर दें—

आदिवासियों के विद्रोहों में संथालों का विद्रोह सबसे ज़बरदस्त था। भागलपुर से राजमहल के बीच का क्षेत्र दामन-ए-कोह के नाम से जाना जाता था। यहाँ हज़ारों संथालों ने संगठित विद्रोह किया। ज़मींदार, पुलिस, राजस्व विभाग और अदालतों ने संथालों पर बेइतहा जुल्म ढाए। संथालों को कर्ज़ देकर 50 से 500 फीसदी की दर से ब्याज़ वसूला जाता था। 1854 के आते-आते आदिवासी कसमसाने लगे। आदिवासियों के मुखिया मजलिस और परगणित बैठकें करने लगे और तैयारी शुरू हो गई खुले विद्रोह की। इनमें एक स्वर से निर्णय किया गया कि बाहरी लोगों को भगाने, विदेशियों का राज हमेशा के लिए खत्म कर सतयुग का राज – न्याय और धर्म पर अपना राज – स्थापित करने के लिए खुला विद्रोह किया जाए। संथालों को विश्वास था कि भगवान् उनके साथ है। विद्रोही आदिवासियों के दो प्रमुख नेता सीदो और कान्हू थे। इन्होंने घोषणा की कि ठाकुरजी (भगवान) ने उन्हें निर्देश दिया है कि आज़ादी के लिए अब हथियार उठा लो। विद्रोहियों ने महाजनों और ज़मींदारों पर हमला बोलना शुरू किया। उनके मकान जला डाले। लगभग उन सभी चीज़ों पर हमला किया, जो दिकू (गैर-आदिवासी) और उपनिवेशवादी सत्ता के शोषण के माध्यम थे।

SubQuestion No : 18

Q.18 गद्यांश में वर्णित विद्रोह के संदर्भ में असत्य है--

- Ans** 1. इस विद्रोह में धार्मिकता को स्थान नहीं दिया गया था।
 2. सीदो और कान्हू इस विद्रोह के मुख्य नेता थे।
 3. यह विद्रोह भागलपुर से राजमहल के बीच के क्षेत्र में हुआ।
 4. विद्रोहियों ने महाजनों और ज़मींदारों को अपना निशाना बनाया।

Question ID : 630680896386

Option 1 ID : 6306803511518

Option 2 ID : 6306803511516

Option 3 ID : 6306803511515

Option 4 ID : 6306803511517

Comprehension:

दिए गए गद्यांश के आधार पर प्रश्न के उत्तर दें—

आदिवासियों के विद्रोहों में संथालों का विद्रोह सबसे ज़बरदस्त था। भागलपुर से राजमहल के बीच का क्षेत्र दामन-ए-कोह के नाम से जाना जाता था। यहाँ हज़ारों संथालों ने संगठित विद्रोह किया। ज़मींदार, पुलिस, राजस्व विभाग और अदालतों ने संथालों पर बेइतहा जुल्म ढाए। संथालों को कर्ज़ देकर 50 से 500 फीसदी की दर से ब्याज़ वसूला जाता था। 1854 के आते-आते आदिवासी कसमसाने लगे। आदिवासियों के मुखिया मजलिस और परगणित बैठकें करने लगे और तैयारी शुरू हो गई खुले विद्रोह की। इनमें एक स्वर से निर्णय किया गया कि बाहरी लोगों को भगाने, विदेशियों का राज हमेशा के लिए खत्म कर सतयुग का राज – न्याय और धर्म पर अपना राज – स्थापित करने के लिए खुला विद्रोह किया जाए। संथालों को विश्वास था कि भगवान् उनके साथ है। विद्रोही आदिवासियों के दो प्रमुख नेता सीदो और कान्हू थे। इन्होंने घोषणा की कि ठाकुरजी (भगवान) ने उन्हें निर्देश दिया है कि आज़ादी के लिए अब हथियार उठा लो। विद्रोहियों ने महाजनों और ज़मींदारों पर हमला बोलना शुरू किया। उनके मकान जला डाले। लगभग उन सभी चीज़ों पर हमला किया, जो दिकू (गैर-आदिवासी) और उपनिवेशवादी सत्ता के शोषण के माध्यम थे।

SubQuestion No : 19

Q.19 'मजलिस' शब्द का अर्थ है--

- Ans** 1. संगोष्ठी
 2. समारोह
 3. सभा
 4. भाषण

Question ID : 630680896384

Option 1 ID : 6306803511508

Option 2 ID : 6306803511510

Option 3 ID : 6306803511507

Option 4 ID : 6306803511509

Comprehension:

दिए गए गद्यांश के आधार पर प्रश्न के उत्तर दें—

आदिवासियों के विद्रोहों में संथालों का विद्रोह सबसे ज़बरदस्त था। भागलपुर से राजमहल के बीच का क्षेत्र दामन-ए-कोह के नाम से जाना जाता था। यहाँ हज़ारों संथालों ने संगठित विद्रोह किया। ज़मींदार, पुलिस, राजस्व विभाग और अदालतों ने संथालों पर बेइतहा जुल्म ढाए। संथालों को कर्ज़ देकर 50 से 500 फीसदी की दर से ब्याज़ वसूला जाता था। 1854 के आते-आते आदिवासी कसमसाने लगे। आदिवासियों के मुखिया मजलिस और परगणित बैठकें करने लगे और तैयारी शुरू हो गई खुले विद्रोह की। इनमें एक स्वर से निर्णय किया गया कि बाहरी लोगों को भगाने, विदेशियों का राज हमेशा के लिए खत्म कर सतयुग का राज – न्याय और धर्म पर अपना राज – स्थापित करने के लिए खुला विद्रोह किया जाए। संथालों को विश्वास था कि भगवान् उनके साथ है। विद्रोही आदिवासियों के दो प्रमुख नेता सीदो और कान्हू थे। इन्होंने घोषणा की कि ठाकुरजी (भगवान) ने उन्हें निर्देश दिया है कि आज़ादी के लिए अब हथियार उठा लो। विद्रोहियों ने महाजनों और ज़मींदारों पर हमला बोलना शुरू किया। उनके मकान जला डाले। लगभग उन सभी चीज़ों पर हमला किया, जो दिकू (गैर-आदिवासी) और उपनिवेशवादी सत्ता के शोषण के माध्यम थे।

SubQuestion No : 20

Q.20 'दामन-ए-कोह' क्या था?

- Ans
- 1. एक आंदोलन का नाम
 - 2. एक शहर का नाम
 - 3. एक जाति का नाम
 - 4. एक विस्तृत क्षेत्र का नाम

Question ID : 630680896382
Option 1 ID : 6306803511502
Option 2 ID : 6306803511499
Option 3 ID : 6306803511501
Option 4 ID : 6306803511500

Section : Discipline1

Q.1 समावेशी शिक्षा के संबंध में कौन-सा कथन सही नहीं है?

- Ans
- 1. न केवल दिव्यांग बच्चों के लिए, बल्कि अल्पसंख्यक भाषा बोलने वालों के लिए भी अधिगम के अवसर।
 - 2. विशेष आवश्यकता वाले बच्चों के लिए विशेष कक्षाएँ और स्कूल।
 - 3. समावेशी शिक्षा का अर्थ "सभी बच्चे एक ही स्कूल में, एक ही कक्षा में" है।
 - 4. पारंपरिक रूप से बहिष्कृत समूहों के लिए वास्तविक अधिगम के अवसर।

Question ID : 630680896566
Option 1 ID : 6306803512234
Option 2 ID : 6306803512231
Option 3 ID : 6306803512232
Option 4 ID : 6306803512233

Q.2 हमारा दृश्य तंत्र मुख्य रूप से किन तीन घटकों से मिलकर बना होता है?

- Ans
- 1. नेत्र, संवेदी तंत्रिकाएं और मस्तिष्क
 - 2. नेत्र, दृष्टि तंत्रिकाएं और प्रकाश
 - 3. नेत्र, दृष्टि तंत्रिकाएं और संवेदी तंत्रिकाएं
 - 4. नेत्र, दृष्टि तंत्रिकाएं और मस्तिष्क

Question ID : 630680896572
Option 1 ID : 6306803512255
Option 2 ID : 6306803512258
Option 3 ID : 6306803512257
Option 4 ID : 6306803512256

Q.3 वह कथन ज्ञात कीजिए जो अधिगम की प्रकृति के संबंध में सही नहीं है।

- Ans
- 1. अधिगम सार्वभौमिक और सतत होता है।
 - 2. अधिगम स्थायी है इसे उत्क्रमित नहीं किया जा सकता है।
 - 3. अधिगम एक प्रक्रिया है न कि एक उत्पाद
 - 4. अधिगम उद्देश्यपूर्ण या लक्ष्य निर्देशित होता है।

Question ID : 630680896559
 Option 1 ID : 6306803512206
 Option 2 ID : 6306803512205
 Option 3 ID : 6306803512203
 Option 4 ID : 6306803512204

Q.4 अंग्रेजी भाषा शिक्षण की किस विधि में बच्चे की प्राथमिक भाषा या मातृभाषा का व्यापक रूप से उपयोग किया जाता है?

- Ans
- 1. श्रव्य-भाषिक विधि
 - 2. समग्र शारीरिक अनुक्रिया
 - 3. प्रत्यक्ष विधि
 - 4. व्याकरण अनुवाद विधि

Question ID : 630680896565
 Option 1 ID : 6306803512228
 Option 2 ID : 6306803512230
 Option 3 ID : 6306803512227
 Option 4 ID : 6306803512229

Q.5 कौन-सा भारतीय अधिनियम दिव्यांगजनों की शिक्षा, रोजगार, बाधा मुक्त परिवेश के निर्माण, सामाजिक सुरक्षा आदि प्रदान करने का ध्यान रखता है?

- Ans
- 1. आर.सी.आई.(RCI) अधिनियम, 1992
 - 2. आर.टी.ई.(RTE) अधिनियम, 2009
 - 3. आर.पी.डब्ल्यू.डी.(RPWD) अधिनियम, 2016
 - 4. मानसिक स्वास्थ्य अधिनियम, 1987

Question ID : 630680896568
 Option 1 ID : 6306803512240
 Option 2 ID : 6306803512241
 Option 3 ID : 6306803512242
 Option 4 ID : 6306803512239

Q.6 एक ही भू-राजनीतिक परिवेश में विभिन्न सामाजिक संरचनाओं, विश्वास प्रणालियों, रिवाजों और जीवन जीने के तरीकों के सह-अस्तित्व की घटना का वर्णन करने के लिए किस शब्द का प्रयोग किया जाता है?

- Ans
- 1. सांस्कृतिक समरूपता
 - 2. आत्मसात्करण
 - 3. संजाति केंद्रिकता
 - 4. सामाजिक-सांस्कृतिक विविधता

Question ID : 630680896567
 Option 1 ID : 6306803512235
 Option 2 ID : 6306803512236
 Option 3 ID : 6306803512238
 Option 4 ID : 6306803512237

Q.7 चित्रात्मक प्रस्तुतीकरण, जिसमें बच्चों को चित्रों की व्याख्या करना और गणितीय प्रश्नों के लिए प्रासंगिक जानकारी और हल ढूंढना शामिल है, वे शिक्षण तकनीकें हैं जिन्हें विद्यार्थियों को _____ पर पढ़ाने के लिए प्राथमिक रूप से अपनाया जाता है।

- Ans
- 1. प्रारंभिक स्तर
 - 2. माध्यमिक स्तर
 - 3. पूर्व प्राथमिक स्तर
 - 4. प्राथमिक स्तर

Question ID : 630680896562
Option 1 ID : 6306803512217
Option 2 ID : 6306803512218
Option 3 ID : 6306803512215
Option 4 ID : 6306803512216

Q.8 Assertion (A): Educational evaluation is carried out from time to time.
Reason (R): Through evaluation reliable decisions about educational planning is made.

- Ans
- 1. Both A and R are true but R is not the correct explanation of A.
 - 2. Both A and R are false.
 - 3. A is true but R is false.
 - 4. Both A and R are true and R is the correct explanation of A.

Question ID : 630680896560
Option 1 ID : 6306803512208
Option 2 ID : 6306803512210
Option 3 ID : 6306803512209
Option 4 ID : 6306803512207

Q.9 Adolescence is the transitional phase of growth and development between _____ and _____.

- Ans
- 1. Toddlerhood, middle childhood
 - 2. Childhood, adulthood
 - 3. Early childhood, later childhood
 - 4. Infancy, early childhood

Question ID : 630680896558
Option 1 ID : 6306803512201
Option 2 ID : 6306803512202
Option 3 ID : 6306803512200
Option 4 ID : 6306803512199

Q.10 Documentaries, museums, artifacts, archives, timelines are some of the resources to teach _____ effectively to social science students.

- Ans 1. Political science
 2. History
 3. Economics
 4. Geography

Question ID : 630680896563
Option 1 ID : 6306803512220
Option 2 ID : 6306803512222
Option 3 ID : 6306803512219
Option 4 ID : 6306803512221

Q.11 शिक्षा का अधिकार अधिनियम, विशेष आवश्यकता वाले बच्चों सहित निम्नलिखित में से किस आयु वर्ग के बच्चों को निःशुल्क और अनिवार्य शिक्षा का अधिकार प्रदान करता है?

- Ans 1. 4-16 वर्ष
 2. 6-14 वर्ष
 3. 6-16 वर्ष
 4. 4-14 वर्ष

Question ID : 630680896569
Option 1 ID : 6306803512245
Option 2 ID : 6306803512244
Option 3 ID : 6306803512246
Option 4 ID : 6306803512243

Q.12 A testing procedure for the formal assessment of the hearing losses is known as?

- Ans 1. Audiometer
 2. Audiobook
 3. Audiometry
 4. Audiogram

Question ID : 630680896571
Option 1 ID : 6306803512252
Option 2 ID : 6306803512254
Option 3 ID : 6306803512251
Option 4 ID : 6306803512253

Q.13 Which among the following statement is not correct?

- Ans 1. Development is a process that starts even before birth
 2. Development refers to both quantitative and qualitative changes
 3. Development has a static nature
 4. Developmental changes are systematic

Question ID : 630680896557
Option 1 ID : 6306803512198
Option 2 ID : 6306803512195
Option 3 ID : 6306803512196
Option 4 ID : 6306803512197

Q.14 नेत्र विज्ञान किससे सम्बंधित है?

- Ans 1. दृष्टि दोष
 2. मनोविकार
 3. श्रवण विकार
 4. वाग्दोष

Question ID : 630680896573
 Option 1 ID : 6306803512261
 Option 2 ID : 6306803512262
 Option 3 ID : 6306803512259
 Option 4 ID : 6306803512260

Q.15 पढ़ने और लिखने की एक स्पर्श प्रणाली जो दृष्टिबाधित बच्चों के लिए तैयार की गई है, क्या कहलाती है?

- Ans 1. इलेक्ट्रॉनिक रीडर (Electronic reader)
 2. ऑडियोबुक (Audiobook)
 3. ब्रेल (Braille)
 4. श्रव्य पुस्तक (Talking book)

Question ID : 630680896574
 Option 1 ID : 6306803512265
 Option 2 ID : 6306803512263
 Option 3 ID : 6306803512266
 Option 4 ID : 6306803512264

Q.16 बच्चा भाषा के छोटे-सरल वाक्य कब बोलना शुरू करता है?

- Ans 1. 3 साल में
 2. 11 महीने में
 3. 2 साल में
 4. 4 साल में

Question ID : 630680896564
 Option 1 ID : 6306803512225
 Option 2 ID : 6306803512223
 Option 3 ID : 6306803512224
 Option 4 ID : 6306803512226

Q.17 Which among the following is not one of the factors causing learning disabilities?

- Ans 1. Heredity factors
 2. Economic factors
 3. Environmental factors
 4. Physiological factors

Question ID : 630680896575
 Option 1 ID : 6306803512267
 Option 2 ID : 6306803512269
 Option 3 ID : 6306803512270
 Option 4 ID : 6306803512268

Q.18 निम्नलिखित में से कौन-सा कथन प्रदर्शन विधि के संबंध में सत्य नहीं है?

- Ans
- 1. प्रदर्शन से शिक्षार्थी को अवलोकन के माध्यम से अधिगम में सहायता मिलती है।
 - 2. प्रदर्शन शिक्षण की एक शिक्षार्थी केन्द्रित विधि है।
 - 3. विज्ञान की कक्षा में प्रदर्शन का अक्सर उपयोग किया जाता है।
 - 4. प्रदर्शन विधि एक क्रियाकलाप केन्द्रित विधि है।

Question ID : 630680896561
 Option 1 ID : 6306803512211
 Option 2 ID : 6306803512212
 Option 3 ID : 6306803512214
 Option 4 ID : 6306803512213

Q.19 किस योजना के तहत गंभीर विकलांगता वाले बच्चों को घर-आधारित और वैकल्पिक शैक्षिक सेटिंग्स के तहत शिक्षित किया जा सकता है ताकि वे स्वतंत्र जीवन कौशल हासिल कर सकें?

- Ans
- 1. राष्ट्रीय माध्यमिक शिक्षा अभियान
 - 2. माध्यमिक स्तर पर दिव्यांगों के लिए समावेशी शिक्षा
 - 3. शिक्षा का अधिकार अधिनियम
 - 4. सर्व शिक्षा अभियान

Question ID : 630680896570
 Option 1 ID : 6306803512250
 Option 2 ID : 6306803512248
 Option 3 ID : 6306803512247
 Option 4 ID : 6306803512249

Q.20 The period of trust vs. mistrust has appeared in which developmental theory?

- Ans
- 1. Psycho-social development theory
 - 2. Emotional development theory
 - 3. Psychological development theory
 - 4. Socio-cultural development theory

Question ID : 630680896556
 Option 1 ID : 6306803512194
 Option 2 ID : 6306803512192
 Option 3 ID : 6306803512191
 Option 4 ID : 6306803512193

Section : Discipline2

Q.1 प्रतिभाशाली बच्चों के साथ काम करने वाले परामर्शदाताओं के लिए महत्वपूर्ण विचारणा क्या है?

- Ans
- 1. प्रतिभा की बारीकी को समझना और एक मजबूत सैद्धांतिक आधार रखना।
 - 2. मनोविकारी लक्षणों और निदान श्रेणियों की पहचान करना।
 - 3. बच्चे की समस्या के हेतुविज्ञान को नज़रअंदाज़ करना।
 - 4. मानना कि पारंपरिक परामर्श पद्धतियां पर्याप्त हैं।

Question ID : 630680896588
 Option 1 ID : 6306803512322
 Option 2 ID : 6306803512321
 Option 3 ID : 6306803512320
 Option 4 ID : 6306803512319

Q.2 Alpha-feto protein test, sonography, MRI and Amniocentesis are some of the tests to identify multiple disabilities among children at-

- Ans
- 1. Pre-natal stage
 - 2. Early childhood
 - 3. Later childhood
 - 4. Post-natal stage

Question ID : 630680896585
 Option 1 ID : 6306803512307
 Option 2 ID : 6306803512309
 Option 3 ID : 6306803512310
 Option 4 ID : 6306803512308

Q.3 पूर्वस्कूली शिक्षा में आमतौर पर किस प्रकार की पद्धति निर्धारित और अपनाई जाती है?

- Ans
- 1. क्रीड़ा-पद्धति
 - 2. रटने की पद्धति
 - 3. व्याख्यान-आधारित पद्धति
 - 4. औपचारिक शिक्षण पद्धति

Question ID : 630680896591
 Option 1 ID : 6306803512333
 Option 2 ID : 6306803512331
 Option 3 ID : 6306803512332
 Option 4 ID : 6306803512334

Q.4 अनुकूली कुर्सियाँ, स्टैंडर्स, साइड-लेयर्स और स्टैंडिंग फ्रेम कुछ ऐसी सहायक प्रौद्योगिकियाँ हैं, जिनका उपयोग _____ वाले व्यक्तियों द्वारा किया जाता है।

- Ans
- 1. वाक् विकार
 - 2. एडीएचडी (ADHD)
 - 3. मोटर विकलांगता
 - 4. श्रवण अक्षमता

Question ID : 630680896584
 Option 1 ID : 6306803512305
 Option 2 ID : 6306803512306
 Option 3 ID : 6306803512304
 Option 4 ID : 6306803512303

Q.5 अनुप्रयुक्त व्यवहार विश्लेषण (ABA) का प्राथमिक फोकस क्या है?

- Ans
- 1. सकारात्मक सुदृढीकरण
 - 2. नकारात्मक सुदृढीकरण
 - 3. औषधीय हस्तक्षेप
 - 4. संज्ञानात्मक सिद्धांत

Question ID : 630680896592
 Option 1 ID : 6306803512337
 Option 2 ID : 6306803512335
 Option 3 ID : 6306803512338
 Option 4 ID : 6306803512336

Q.6 From the given options, which one is not a testing device to identify learning disabled child?

- Ans
- 1. Ability test
 - 2. Diagnostic test
 - 3. Observation
 - 4. Daily assessment system

Question ID : 630680896576
 Option 1 ID : 6306803512273
 Option 2 ID : 6306803512272
 Option 3 ID : 6306803512271
 Option 4 ID : 6306803512274

Q.7 किस प्रकार का निर्देशन व्यक्तियों को व्यवसाय या कैरियर को चुनने, तैयारी करने, प्रवेश करने और उनके चुने हुए व्यवसाय या कैरियर में प्रगति करने में सहायता करने पर केंद्रित होता है?

- Ans
- 1. वैयक्तिक-सामाजिक निर्देशन
 - 2. व्यावसायिक निर्देशन
 - 3. शैक्षिक निर्देशन
 - 4. अध्ययन कौशल प्रशिक्षण

Question ID : 630680896587
 Option 1 ID : 6306803512316
 Option 2 ID : 6306803512317
 Option 3 ID : 6306803512315
 Option 4 ID : 6306803512318

Q.8 ADHD का विस्तारित रूप क्या है?

- Ans
- 1. Attention Deficit Hyperactivity Disorder (अटेंशन डेफिसिट हाइपरएक्टिविटी डिसऑर्डर)
 - 2. Attention Disorder of Hyperactivity Deficiency (अटेंशन डिसऑर्डर ऑफ हाइपरएक्टिविटी डेफिसिएंसी)
 - 3. Attention Deficit Hypersensitivity Disorder (अटेंशन डेफिसिट हाइपरसेंसिटिविटी डिसऑर्डर)
 - 4. Attention Deficiency Hyperactivity Disorder (अटेंशन डेफिसिएंसी हाइपरएक्टिविटी डिसऑर्डर)

Question ID : 630680896579
 Option 1 ID : 6306803512284
 Option 2 ID : 6306803512283
 Option 3 ID : 6306803512285
 Option 4 ID : 6306803512286

Q.9 अनुप्रयुक्त व्यवहार विश्लेषण में शामिल चरणों का सही क्रम क्या है?

- Ans 1. बच्चे के व्यवहार का विश्लेषण करना, उचित व्यवहार को आकार देना, वैकल्पिक व्यवहार की पहचान करना।
2. वैकल्पिक व्यवहार की पहचान करना, बच्चे के व्यवहार का विश्लेषण करना, उचित व्यवहार को आकार देना।
3. बच्चे के व्यवहार का विश्लेषण करना, वैकल्पिक व्यवहार की पहचान करना, उचित व्यवहार को आकार देना।
4. उपयुक्त व्यवहार को आकार देना, वैकल्पिक व्यवहार की पहचान करना, बच्चे के व्यवहार का विश्लेषण करना।

Question ID : 630680896595
Option 1 ID : 6306803512348
Option 2 ID : 6306803512347
Option 3 ID : 6306803512350
Option 4 ID : 6306803512349

Q.10 निम्नलिखित में से कौन-सा शब्द, अभिव्यंजक भाषा समस्याओं से संबंधित नहीं है?

- Ans 1. अप्रेक्सिया (Apraxia)
2. डिसग्राफिया (Dysgraphia)
3. डिसोमिया (Dysnomia)
4. डिसार्थ्रिया (Dysarthria)

Question ID : 630680896580
Option 1 ID : 6306803512288
Option 2 ID : 6306803512290
Option 3 ID : 6306803512287
Option 4 ID : 6306803512289

Q.11 The primary source of AUTISM identification is -

- Ans 1. Doctors
2. Parents/caregivers
3. Teachers
4. Pediatrician

Question ID : 630680896581
Option 1 ID : 6306803512291
Option 2 ID : 6306803512293
Option 3 ID : 6306803512292
Option 4 ID : 6306803512294

Q.12 लोवास पद्धति (Lovass method) का गहन हस्तक्षेप कार्यक्रम मुख्य रूप से किस आयु वर्ग को लक्षित करता है?

- Ans 1. युवा वयस्क
2. किशोर
3. पूर्वस्कूली आयु के बच्चे
4. स्कूल जाने वाले बच्चे

Question ID : 630680896596
Option 1 ID : 6306803512354
Option 2 ID : 6306803512353
Option 3 ID : 6306803512351
Option 4 ID : 6306803512352

Q.13 Autistic children are found to share many characteristics with the following except-

- Ans 1. Emotional disturbance
 2. Fragile X Syndrome
 3. Mental retardation
 4. Hypertension

Question ID : 630680896582
 Option 1 ID : 6306803512296
 Option 2 ID : 6306803512297
 Option 3 ID : 6306803512295
 Option 4 ID : 6306803512298

Q.14 Which among the following factor causing multiple disabilities in children is not associated at the time of the birth?

- Ans 1. Postnatal trauma
 2. Premature birth
 3. Oxygen deprivation
 4. Perinatal hemorrhage

Question ID : 630680896586
 Option 1 ID : 6306803512314
 Option 2 ID : 6306803512312
 Option 3 ID : 6306803512311
 Option 4 ID : 6306803512313

Q.15 What is the primary focus of educational accommodations for children with ADHD?

- Ans 1. Implementing strict disciplinary measures
 2. Manipulating the child's behavior directly
 3. Providing additional academic tutoring
 4. Altering the classroom environment to fit the child's needs

Question ID : 630680896589
 Option 1 ID : 6306803512326
 Option 2 ID : 6306803512323
 Option 3 ID : 6306803512325
 Option 4 ID : 6306803512324

Q.16 प्रारंभिक वर्षों की शिक्षा में सफल समावेशन के लिए प्रमुख घटक क्या है?

- Ans 1. अक्षम बालकों को मूल्यांकन से बाहर रखना
 2. लचीली पाठ्यचर्या और सुलभ वातावरण
 3. प्रारंभिक शिक्षण वातावरण तक सीमित अभिगम्यता
 4. सख्त पाठ्यचर्या

Question ID : 630680896590
 Option 1 ID : 6306803512330
 Option 2 ID : 6306803512328
 Option 3 ID : 6306803512329
 Option 4 ID : 6306803512327

Q.17 अभिकथन (A): प्रमस्तिष्क घात एक ऐसी स्थिति है जिसमें व्यक्ति शरीर के संचलन पर नियंत्रण नहीं रख सकता है।

कारण (R): मस्तिष्क में मोटर क्षेत्रों का दोषपूर्ण विकास संचलन और संस्थिति को भलीभाँति नियंत्रित करने की मस्तिष्क की क्षमता को बाधित करता है।

- Ans
- 1. A और R दोनों सत्य हैं और R, A का सही स्पष्टीकरण है।
 - 2. A और R दोनों सत्य हैं लेकिन R, A का सही स्पष्टीकरण नहीं है।
 - 3. A और R दोनों असत्य हैं।
 - 4. A सत्य है लेकिन R असत्य है।

Question ID : 630680896583
 Option 1 ID : 6306803512299
 Option 2 ID : 6306803512300
 Option 3 ID : 6306803512302
 Option 4 ID : 6306803512301

Q.18 Which among the following is not an appropriate technique helping the learning-disabled child?

- Ans
- 1. Individualized instructions
 - 2. Instructor-centered approach
 - 3. Mnemonic device
 - 4. Technological approach

Question ID : 630680896578
 Option 1 ID : 6306803512281
 Option 2 ID : 6306803512282
 Option 3 ID : 6306803512279
 Option 4 ID : 6306803512280

Q.19 किसी व्यक्ति के यांत्रिक लेखन कौशल से संबंधित लिखित भाषा विकार को क्या कहते हैं?

- Ans
- 1. डिसग्राफिया (Dysgraphia)
 - 2. डिस्नोमिया (Dysnomia)
 - 3. डिस्कैलकुलिया (Dyscalculia)
 - 4. डिस्लेक्सिया (Dyslexia)

Question ID : 630680896577
 Option 1 ID : 6306803512276
 Option 2 ID : 6306803512278
 Option 3 ID : 6306803512277
 Option 4 ID : 6306803512275

Q.20 अनुप्रयुक्त व्यवहार विश्लेषण (ABA) के अनुसार, बच्चों में अनुचित व्यवहार के उपचार में पहला चरण क्या है?

- Ans 1. प्रभावित बच्चे के परिवेश में उसके व्यवहार का विश्लेषण करना।
 2. वैकल्पिक व्यवहारों की पहचान करना।
 3. गहन परीक्षण प्रशिक्षण प्रदान करना।
 4. व्यवहार संशोधन तकनीकों का क्रियान्वयन करना।

Question ID : 630680896593
 Option 1 ID : 6306803512340
 Option 2 ID : 6306803512339
 Option 3 ID : 6306803512342
 Option 4 ID : 6306803512341

Section : Discipline3

Q.1 कौन-सा उपकरण ब्रेल पाठ (Braille text) की तत्काल हार्ड कॉपी प्रदान करता है और मुद्रण से पहले पाठ प्रविष्टि और प्रूफरीडिंग की सुविधा देता है?

- Ans 1. इलेक्ट्रॉनिक ब्रेल टाइपराइटर
 2. टैक्टाइल इमेज
 3. इलेक्ट्रॉनिक ब्रेल नोट-टेकर
 4. पोर्टेबल रीडिंग डिवाइस

Question ID : 630680896604
 Option 1 ID : 6306803512386
 Option 2 ID : 6306803512384
 Option 3 ID : 6306803512383
 Option 4 ID : 6306803512385

Q.2 श्रवण संबंधी कठिनाइयों वाले व्यक्तियों के दैनिक जीवन के लिए क्या आवश्यक है?

- Ans 1. सांकेतिक भाषा कौशल की अपेक्षा अंग्रेजी बोलने के कौशल पर बल देना
 2. सांकेतिक संचार की अपेक्षा मौखिक संचार को प्राथमिकता
 3. संचार के लिए दृष्टि का उपयोग, प्रायः सांकेतिक भाषा के माध्यम से
 4. श्रवण संचार पर निर्भरता

Question ID : 630680896609
 Option 1 ID : 6306803512406
 Option 2 ID : 6306803512405
 Option 3 ID : 6306803512404
 Option 4 ID : 6306803512403

Q.3 अभिकथन: दृष्टिबाधित व्यक्ति दिशा-निर्देशन के लिए दृष्टि के अलावा अन्य इंद्रियों पर निर्भर होते हैं।
कारण: वे बाधाओं और स्थलों को पहचानने के लिए अपनी श्रवण, स्पर्श और गंध इंद्रियों का उपयोग करते हैं।

- Ans
- 1. अभिकथन सत्य है, लेकिन कारण असत्य है।
 - 2. अभिकथन और कारण दोनों सत्य हैं तथा कारण, अभिकथन का सही स्पष्टीकरण है।
 - 3. अभिकथन असत्य है, लेकिन कारण सत्य है।
 - 4. अभिकथन और कारण दोनों सत्य हैं लेकिन कारण, अभिकथन का सही स्पष्टीकरण नहीं है।

Question ID : 630680896605
Option 1 ID : 6306803512389
Option 2 ID : 6306803512387
Option 3 ID : 6306803512390
Option 4 ID : 6306803512388

Q.4 समावेशी शिक्षा की क्या विशेषता है?

- Ans
- 1. विशेष आवश्यकता वाले विद्यार्थियों का नामांकन सामान्य शिक्षा कक्षाओं में करना।
 - 2. उपेक्षित विद्यार्थियों के लिए अलग शिक्षा कार्यक्रम उपलब्ध कराना।
 - 3. केवल उच्च शैक्षणिक योग्यता वाले विद्यार्थियों को अतिरिक्त सहायता प्रदान करना।
 - 4. विशेष आवश्यकता वाले विद्यार्थियों को सामान्य शिक्षा कक्षाओं से बाहर रखना।

Question ID : 630680896600
Option 1 ID : 6306803512369
Option 2 ID : 6306803512368
Option 3 ID : 6306803512370
Option 4 ID : 6306803512367

Q.5 दृष्टिबाधित व्यक्तियों के लिए लम्बी छड़ी की तुलना में फोल्डिंग छड़ी का मुख्य लाभ क्या है?

- Ans
- 1. फोल्डिंग छड़ी संतुलन के लिए अतिरिक्त सपोर्ट प्रदान करती है।
 - 2. फोल्डिंग छड़ी सस्ती और अधिक किफायती हैं।
 - 3. यात्रा के दौरान फोल्डिंग छड़ी को आसानी से बैग में रखा जा सकता है।
 - 4. फोल्डिंग छड़ी की पहुंच लंबी होती है और बाधाओं का बेहतर पता लगाया जा सकता है।

Question ID : 630680896608
Option 1 ID : 6306803512400
Option 2 ID : 6306803512399
Option 3 ID : 6306803512401
Option 4 ID : 6306803512402

Q.6 How has prosthetic technology advanced to assist individuals with hearing impairments?

- Ans
- 1. By implementing cognitive enhancement tools
 - 2. By introducing mobility devices for physical support
 - 3. By providing visual aids for communication
 - 4. By developing cochlear implants and digital hearing aids

Question ID : 630680896602
Option 1 ID : 6306803512378
Option 2 ID : 6306803512377
Option 3 ID : 6306803512376
Option 4 ID : 6306803512375

Q.7 According to the World Federation of the Deaf (2012), what approach is becoming popular in educating deaf children?

- Ans
- 1. Teaching only written language skills
 - 2. Exclusively using pantomime and gesture for communication
 - 3. Adopting a bilingual approach with sign language as the teaching language
 - 4. Focusing solely on rhetoric and poetry in sign language

Question ID : 630680896613
Option 1 ID : 6306803512419
Option 2 ID : 6306803512420
Option 3 ID : 6306803512421
Option 4 ID : 6306803512422

Q.8 पुनर्वास का प्राथमिक उद्देश्य क्या है?

- Ans
- 1. दिव्यांग व्यक्तियों को उनके समुदायों से अलग करना।
 - 2. सामाजिक कलंक और बहिष्कार को बढ़ावा देना।
 - 3. दिव्यांग व्यक्तियों के लिए स्वास्थ्य सेवाओं तक पहुंच को सीमित करना।
 - 4. व्यक्तियों को सकारात्मक स्वास्थ्य के उच्चतम संभव स्तर को प्राप्त करने और सामाजिक एकीकरण प्राप्त करने में सक्षम बनाना।

Question ID : 630680896597
Option 1 ID : 6306803512355
Option 2 ID : 6306803512356
Option 3 ID : 6306803512357
Option 4 ID : 6306803512358

Q.9 स्कूलों में सांकेतिक भाषा से क्या लाभ मिलता है?

- Ans
- 1. यह विद्यार्थियों में संज्ञानात्मक कौशल को कम करती है।
 - 2. यह संचार प्रक्रिया को बढ़ाती है।
 - 3. यह ज्ञान और सूचना के संचरण को सीमित करती है।
 - 4. यह अधिगम की प्रक्रिया में बाधा डालती है।

Question ID : 630680896614
Option 1 ID : 6306803512425
Option 2 ID : 6306803512424
Option 3 ID : 6306803512426
Option 4 ID : 6306803512423

Q.10 विकलांगता के सामाजिक मॉडल के अनुसार, विकलांगता का निर्धारण करने में प्राथमिक कारक क्या माना जाता है?

- Ans
- 1. आनुवंशिक रोगप्रवणता
 - 2. व्यक्तिगत स्वास्थ्य स्थितियां
 - 3. सामाजिक और पर्यावरणीय कारक
 - 4. चिकित्सा उपचार तक पहुंच

Question ID : 630680896601
Option 1 ID : 6306803512373
Option 2 ID : 6306803512371
Option 3 ID : 6306803512374
Option 4 ID : 6306803512372

Q.11 शारीरिक विकलांगता वाले व्यक्तियों के लिए लेखन को सुविधाजनक बनाने हेतु किस प्रकार की सहायक तकनीक का प्रयोग किया जाता है?

- Ans
- 1. संशोधित कीबोर्ड
 - 2. उन्नत वाक् पहचान सॉफ्टवेयर
 - 3. वर्चुअल रियलिटी हेडसेट
 - 4. कॉम्प्लेक्स रोबोटिक्स

Question ID : 630680896603
 Option 1 ID : 6306803512380
 Option 2 ID : 6306803512382
 Option 3 ID : 6306803512379
 Option 4 ID : 6306803512381

Q.12 अभिविन्यास और गतिशीलता प्रशिक्षण से गतिशीलता संबंधी चुनौतियों वाले व्यक्तियों को किस प्रकार लाभ मिलता है?

- Ans
- 1. संभावित खतरों को रोकने के लिए उनकी आवाजाही को प्रतिबंधित करके
 - 2. दैनिक दिनचर्या की गतिविधियों के लिए दूसरों पर निर्भरता बढ़ाकर
 - 3. अपने पर्यावरण पर नियंत्रण बढ़ाकर और स्वतंत्रता को बढ़ावा देकर
 - 4. उन्हें सामुदायिक जीवन और कार्यबल से अलग करके

Question ID : 630680896606
 Option 1 ID : 6306803512392
 Option 2 ID : 6306803512391
 Option 3 ID : 6306803512393
 Option 4 ID : 6306803512394

Q.13 समुदाय-आधारित पुनर्वास (CBR) की अवधारणा कब अस्तित्व में आई?

- Ans
- 1. 2008
 - 2. 1978
 - 3. 1988
 - 4. 1998

Question ID : 630680896598
 Option 1 ID : 6306803512362
 Option 2 ID : 6306803512359
 Option 3 ID : 6306803512360
 Option 4 ID : 6306803512361

Q.14 लोवास पद्धति (Lovass method) नामक व्यापक रूप से प्रयुक्त व्यवहार उपचार पद्धति का विकास किसने किया?

- Ans
- 1. प्रोफेसर एडम लोवास
 - 2. प्रोफेसर एलेना लोवास
 - 3. प्रोफेसर इवान लोवास
 - 4. प्रोफेसर मार्कस लोवास

Question ID : 630680896594
 Option 1 ID : 6306803512344
 Option 2 ID : 6306803512345
 Option 3 ID : 6306803512343
 Option 4 ID : 6306803512346

Q.15 दृष्टि बाधित व्यक्तियों के लिए दृष्टि गाइड तकनीक का प्राथमिक उद्देश्य क्या है?

- Ans
- 1. दृष्टिबाधित व्यक्ति और गाइड के बीच संचार और समझ को बढ़ाना।
 - 2. नेविगेशन के लिए दृष्टि संपन्न साथी पर निर्भरता बढ़ाना।
 - 3. दृष्टिबाधित व्यक्ति को चलते समय मौखिक निर्देश प्रदान करना।
 - 4. दृष्टिबाधित व्यक्ति के मार्गदर्शन में परिवार के सदस्यों की भागीदारी को हतोत्साहित करना।

Question ID : 630680896607
 Option 1 ID : 6306803512397
 Option 2 ID : 6306803512396
 Option 3 ID : 6306803512395
 Option 4 ID : 6306803512398

Q.16 श्रवण बाधित लोगों के संदर्भ में ISL का क्या अर्थ है?

- Ans
- 1. Indian Sign Language (इंडियन साइन लैंग्वेज)
 - 2. International Sign Language (इंटरनेशनल साइन लैंग्वेज)
 - 3. Interpreted Sign Language (इन्टरप्रेटेड साइन लैंग्वेज)
 - 4. Inclusive Sign Language (इन्क्लूजन साइन लैंग्वेज)

Question ID : 630680896615
 Option 1 ID : 6306803512429
 Option 2 ID : 6306803512427
 Option 3 ID : 6306803512430
 Option 4 ID : 6306803512428

Q.17 सांकेतिक भाषा के लिए संचार का प्राथमिक माध्यम क्या है?

- Ans
- 1. कानों के माध्यम से
 - 2. बोलकर
 - 3. लेखन के माध्यम से
 - 4. हाथ, आँख और धड़ के माध्यम से

Question ID : 630680896612
 Option 1 ID : 6306803512416
 Option 2 ID : 6306803512417
 Option 3 ID : 6306803512415
 Option 4 ID : 6306803512418

Q.18 Which method of communication emphasizes the use of amplification and speech reading for students with hearing impairment?

- Ans
- 1. Auditory verbal uni-sensory method
 - 2. Manual communication method
 - 3. Visual communication method
 - 4. Oral/Auditory-oral method

Question ID : 630680896611
 Option 1 ID : 6306803512411
 Option 2 ID : 6306803512413
 Option 3 ID : 6306803512414
 Option 4 ID : 6306803512412

Q.19 अभिकथन: समावेशी कक्षाओं में श्रवण बाधित बच्चे और शिक्षक के बीच निकटता बनाए रखना आवश्यक है।

कारण: निकटता बच्चे और शिक्षक के बीच बेहतर दृश्य और श्रवण संचार की सुविधा देती है।

- Ans
- 1. अभिकथन सत्य है, लेकिन कारण असत्य है।
 - 2. अभिकथन और कारण दोनों सत्य हैं तथा कारण, अभिकथन का सही स्पष्टीकरण है।
 - 3. अभिकथन असत्य है, लेकिन कारण सत्य है।
 - 4. अभिकथन और कारण दोनों सत्य हैं, लेकिन कारण अभिकथन का सही स्पष्टीकरण नहीं है।

Question ID : 630680896610
Option 1 ID : 6306803512409
Option 2 ID : 6306803512407
Option 3 ID : 6306803512410
Option 4 ID : 6306803512408

Q.20 समुदाय-आधारित पुनर्वास (CBR) कार्यक्रमों के कुछ लाभ क्या हैं?

- Ans
- 1. शैक्षिक और व्यावसायिक अवसरों तक पहुंच सीमित करना
 - 2. दिव्यांग व्यक्तियों के लिए गतिशीलता, संचार कौशल और सामाजिक समावेशन को बढ़ाना
 - 3. स्वतंत्रता और गतिशीलता में कमी
 - 4. संस्थागत देखभाल पर बढ़ती निर्भरता

Question ID : 630680896599
Option 1 ID : 6306803512364
Option 2 ID : 6306803512366
Option 3 ID : 6306803512363
Option 4 ID : 6306803512365

Section : Discipline4

Q.1 भारत के अधिकांश भागों में भारतीय सांकेतिक भाषा में कौन-सी फिंगरस्पेलिंग (fingerspelling) प्रणाली प्रमुख है?

- Ans
- 1. दो-हाथ वाली प्रणाली
 - 2. कोई फिंगरस्पेलिंग प्रणाली नहीं है।
 - 3. एक-हाथ वाली प्रणाली
 - 4. बिना हाथ वाली प्रणाली

Question ID : 630680896616
Option 1 ID : 6306803512431
Option 2 ID : 6306803512434
Option 3 ID : 6306803512432
Option 4 ID : 6306803512433

Q.2 What is a key strategy for curricular adaptation in an inclusive classroom for Children With Special Needs (CWSN)?

- Ans**
- 1. Segregation of CWSN from other students
 - 2. Exclusion of parents from the adaptation process
 - 3. Utilizing standardized teaching methods for all students
 - 4. Providing continuous onsite support to teachers by specialists

Question ID : 630680896629
 Option 1 ID : 6306803512483
 Option 2 ID : 6306803512486
 Option 3 ID : 6306803512484
 Option 4 ID : 6306803512485

Q.3 ऑटिज्म स्पेक्ट्रम विकार आमतौर पर किस आयु में प्रकट होने लगते हैं?

- Ans**
- 1. किशोरावस्था के दौरान
 - 2. 10 वर्ष की आयु के बाद
 - 3. केवल 5 वर्षों के बाद
 - 4. 3 वर्ष की आयु से पहले

Question ID : 630680896624
 Option 1 ID : 6306803512465
 Option 2 ID : 6306803512466
 Option 3 ID : 6306803512463
 Option 4 ID : 6306803512464

Q.4 Which of the following conditions is more commonly associated with Autism Spectrum Disorders ASD?

- Ans**
- 1. Hypertension
 - 2. Diabetes
 - 3. Anxiety and depression
 - 4. Arthritis

Question ID : 630680896625
 Option 1 ID : 6306803512468
 Option 2 ID : 6306803512467
 Option 3 ID : 6306803512469
 Option 4 ID : 6306803512470

Q.5 कौन-सा जन्म-पूर्व कारक बच्चों में अधिगम संबंधी अक्षमताओं के जोखिम को बढ़ाने के लिए जाना जाता है?

- Ans**
- 1. लेड के संपर्क में आना
 - 2. गर्भाशय में पर्याप्त वृद्धि
 - 3. प्रसवोत्तर आघात
 - 4. समय से पहले जन्म

Question ID : 630680896620
 Option 1 ID : 6306803512447
 Option 2 ID : 6306803512448
 Option 3 ID : 6306803512450
 Option 4 ID : 6306803512449

Q.6 निम्नलिखित में से कौन-सा कथन डिस्लेक्सिया (dyslexia) का सबसे अच्छा वर्णन करता है?

- Ans 1. डिस्लेक्सिया एक अधिगम संबंधी विकार है जो भाषा की समझ और पढ़ने के कौशल को प्रभावित करता है।
2. डिस्लेक्सिया केवल औसत से कम बुद्धिमता वाले व्यक्तियों को प्रभावित करता है।
3. डिस्लेक्सिया गर्भावस्था के दौरान पर्यावरणीय विषाक्त पदार्थों के संपर्क में आने के कारण होता है।
4. डिस्लेक्सिया मुख्यतः मोटर कौशल और समन्वय को प्रभावित करता है।

Question ID : 630680896622
Option 1 ID : 6306803512456
Option 2 ID : 6306803512457
Option 3 ID : 6306803512458
Option 4 ID : 6306803512455

Q.7 Assertion: most cases of autism begin very early in the embryonic development of the child.

Reason: the children with autism are found to have specific genetic abnormalities.

- Ans 1. Both Assertion and Reason are true, but Reason is not the correct explanation of the Assertion
2. Both Assertion and Reason are true, and Reason is the correct explanation of the Assertion.
3. Assertion is true, but Reason is false.
4. Assertion is false, but Reason is true.

Question ID : 630680896627
Option 1 ID : 6306803512476
Option 2 ID : 6306803512475
Option 3 ID : 6306803512477
Option 4 ID : 6306803512478

Q.8 उन उच्च तकनीक वाले उपकरणों का वर्णन करने के लिए किस शब्द का प्रयोग किया जाता है जो मौखिक रूप से सीमित संवाद करने वाले या नहीं करने वाले व्यक्तियों के लिए वाक् उत्पन्न करते हैं?

- Ans 1. डिजिटल संचार उपकरण
2. वाक्-वर्धक गैजेट
3. संवर्धित वाक् उपकरण
4. वॉयस आउटपुट कम्युनिकेशन एड

Question ID : 630680896635
Option 1 ID : 6306803512509
Option 2 ID : 6306803512507
Option 3 ID : 6306803512510
Option 4 ID : 6306803512508

Q.9 डिस्प्रेक्सिया (dyspraxia) से प्रभावित होने वाले चार मुख्य कौशल कौन-से हैं?

- Ans
- 1. सकल मोटर कौशल, दृश्य तीक्ष्णता, मोटर योजना और समन्वय
 - 2. सूक्ष्म मोटर कौशल, वाक् संबंधी कठिनाइयाँ, संवेदी संवेदनशीलता और समन्वय
 - 3. सूक्ष्म मोटर कौशल, सकल मोटर कौशल, मोटर योजना और समन्वय
 - 4. भाषण संबंधी कठिनाइयाँ, संवेदी संवेदनशीलता, दृश्य तीक्ष्णता और मोटर योजना

Question ID : 630680896621
Option 1 ID : 6306803512452
Option 2 ID : 6306803512451
Option 3 ID : 6306803512453
Option 4 ID : 6306803512454

Q.10 Which of the following is NOT a factor crucial for quality education in an inclusive classroom environment?

- Ans
- 1. Access to teaching learning materials
 - 2. Exclusivity of teaching methods for different learners
 - 3. Availability of flexible educational content
 - 4. Understanding of special needs of learners

Question ID : 630680896628
Option 1 ID : 6306803512481
Option 2 ID : 6306803512482
Option 3 ID : 6306803512480
Option 4 ID : 6306803512479

Q.11 प्राथमिक स्तर पर दृष्टिबाधित बच्चों को पढ़ाने के लिए निम्नलिखित में से कौन-सी रणनीति अनुशासित नहीं है?

- Ans
- 1. अधिगम के लिए दृश्य आरेख और चार्ट शामिल करना।
 - 2. वास्तविक, ठोस सामग्रियों के स्पर्श का उपयोग करना।
 - 3. बेहतर शिक्षण अवसरों के लिए दृश्य उत्तेजना पर ध्यान केंद्रित करना।
 - 4. सुनने के लिए विस्तृत और वर्णनात्मक निर्देश प्रदान करना।

Question ID : 630680896634
Option 1 ID : 6306803512505
Option 2 ID : 6306803512503
Option 3 ID : 6306803512506
Option 4 ID : 6306803512504

Q.12 मल्टीमॉडल संचारक होने का क्या अर्थ है?

- Ans
- 1. संदेश संप्रेषित करने के अनेक तरीके होना।
 - 2. केवल सांकेतिक भाषा के माध्यम से संवाद करना।
 - 3. संचार के केवल एक ही रूप का उपयोग करना।
 - 4. एकल माध्यम में प्रभावी ढंग से संवाद करने में असमर्थ होना।

Question ID : 630680896618
Option 1 ID : 6306803512440
Option 2 ID : 6306803512442
Option 3 ID : 6306803512439
Option 4 ID : 6306803512441

Q.13 निम्नलिखित में से कौन-सा, संचार व्यवहार का एक महत्वपूर्ण घटक है जिसका मूल्यांकन स्वपरायण (autistic) बच्चों में किया जाता है?

- Ans
- 1. सकल मोटर कौशल
 - 2. दृश्य तीक्ष्णता
 - 3. मौखिक धाराप्रवाह
 - 4. रंग पहचान

Question ID : 630680896626
Option 1 ID : 6306803512471
Option 2 ID : 6306803512473
Option 3 ID : 6306803512472
Option 4 ID : 6306803512474

Q.14 विशेष शिक्षा में AAC का विस्तारित रूप क्या है?

- Ans
- 1. Articulate and Accurate Communication (आर्टिकुलेट एंड एक्यूरेट कम्युनिकेशन)
 - 2. Auditory and Audible Communication (ऑडिटरी एंड ऑडिबल कम्युनिकेशन)
 - 3. Augmentative and Alternative Communication (औगमेंटेटिव एंड अल्टरनेटिव कम्युनिकेशन)
 - 4. Active and Adaptive Conversation (एक्टिव एंड एडैप्टिव कंवर्जेशन)

Question ID : 630680896617
Option 1 ID : 6306803512435
Option 2 ID : 6306803512437
Option 3 ID : 6306803512438
Option 4 ID : 6306803512436

Q.15 बच्चों के शैक्षणिक प्रयासों, विशेषकर भाषा-आधारित गतिविधियों पर श्रवण दोष किस प्रकार प्रभाव डालता है?

- Ans
- 1. यह भाषा की समझ और अभिव्यक्ति को प्रभावित करता है।
 - 2. इसका भाषा और संचार कौशल पर कोई प्रभाव नहीं पड़ता है।
 - 3. यह भाषा अधिग्रहण कौशल को बढ़ाता है।
 - 4. यह पढ़ने और लिखने की क्षमता में सुधार करता है।

Question ID : 630680896631
Option 1 ID : 6306803512494
Option 2 ID : 6306803512493
Option 3 ID : 6306803512491
Option 4 ID : 6306803512492

Q.16 किसी बीमारी के लिए चिकित्सा उपचार की तुलना में व्यावसायिक पुनर्वास (VR) का प्राथमिक लक्ष्य क्या है?

- Ans
- 1. शारीरिक स्वस्थता और तंदुरुस्ती को बढ़ाना।
 - 2. विशेष चिकित्सा देखभाल प्रदान करना।
 - 3. कार्य क्षमता में सुधार और स्थायी रोजगार प्राप्त करना।
 - 4. पैथोलॉजी का इलाज और लक्षणों से राहत।

Question ID : 630680896623
Option 1 ID : 6306803512460
Option 2 ID : 6306803512461
Option 3 ID : 6306803512462
Option 4 ID : 6306803512459

Q.17 संज्ञानात्मक विकलांगता वाले विद्यार्थियों में व्यवहार प्रबंधन के लिए निम्नलिखित में से कौन-सी रणनीति सुझाई नहीं गई है?

- Ans 1. उन्हें सुदृढ़ करने के लिए अनुचित व्यवहार को अनदेखा करना।
 2. आत्म-समर्थन कौशल सिखाना जैसे मदद मांगना और ज़रूरतों को समझना।
 3. सुसंगत दिनचर्या और कक्षा के नियमों को स्थापित करना और बनाए रखना।
 4. समकक्ष ट्यूशन और मित्र प्रणाली जैसे सहायता कार्यक्रम प्रदान करना।

Question ID : 630680896632
 Option 1 ID : 6306803512497
 Option 2 ID : 6306803512496
 Option 3 ID : 6306803512498
 Option 4 ID : 6306803512495

Q.18 What is a major challenge faced by mainstream school teachers in addressing the needs of children with disabilities, including those with hearing impairment?

- Ans 1. Excessive workload
 2. Limited professional training and experience
 3. Insufficient teaching materials
 4. Lack of appropriate classroom infrastructure

Question ID : 630680896630
 Option 1 ID : 6306803512490
 Option 2 ID : 6306803512489
 Option 3 ID : 6306803512488
 Option 4 ID : 6306803512487

Q.19 एएसी (AAC) प्रौद्योगिकी में संदेश बैंकिंग (message banking) में क्या शामिल है?

- Ans 1. प्राकृतिक आवाज और स्वरशैल के साथ संदेशों को डिजिटल रूप से रिकॉर्ड करना और संग्रहीत करना।
 2. ध्वनिम (phonemes) और संस्वन (allophones) का उपयोग करके इलेक्ट्रॉनिक रूप से वाक तैयार करना।
 3. व्यक्ति की प्राकृतिक आवाज के समान एक कृत्रिम आवाज बनाना।
 4. नॉन-स्पीच (nonspeech) ध्वनियों को रिकॉर्ड करना और संग्रहीत करना।

Question ID : 630680896619
 Option 1 ID : 6306803512446
 Option 2 ID : 6306803512444
 Option 3 ID : 6306803512445
 Option 4 ID : 6306803512443

Q.20 शिक्षक, संज्ञानात्मक विकलांगता वाले विद्यार्थियों के लिए अधिगम के अवसरों को कैसे बढ़ा सकते हैं?

- Ans
- 1. व्यावहारिक अधिगम के अवसरों को सीमित करके
 - 2. समकक्ष संपर्क के बिना केवल व्यक्तिगत निर्देश पर ध्यान केंद्रित करके
 - 3. शिक्षण के लिए प्रौद्योगिकी और सॉफ्टवेयर के उपयोग को नजरअंदाज करके
 - 4. वास्तविक जीवन के अनुभव, समकक्ष सहायता प्रदान करके, तथा शिक्षण उपकरण के रूप में प्रौद्योगिकी का उपयोग करके

Question ID : 630680896633
Option 1 ID : 6306803512499
Option 2 ID : 6306803512501
Option 3 ID : 6306803512500
Option 4 ID : 6306803512502

Section : Discipline5

Q.1 ऑटिज्म से पीड़ित व्यक्तियों के लिए कौन-सा कौशल विशेष रूप से कठिन होता है, जिससे उनके लिए आत्मनिर्भर रूप से रहना कठिन हो जाता है?

- Ans
- 1. ड्राइविंग
 - 2. सामाजिक बनना
 - 3. समस्या समाधान और योजना
 - 4. खाना बनाना

Question ID : 630680896640
Option 1 ID : 6306803512528
Option 2 ID : 6306803512530
Option 3 ID : 6306803512529
Option 4 ID : 6306803512527

Q.2 प्रभावी संचार के लिए साझा अर्थगत आधार का होना क्यों महत्वपूर्ण है?

- Ans
- 1. यह वाक्य में व्याकरणिक शुद्धता सुनिश्चित करता है।
 - 2. यह सामाजिक संपर्क और स्पष्ट संचार को सुगम बनाता है।
 - 3. यह आलंकारिक भाषा और विस्तृत विवरण के उपयोग की सुविधा देता है।
 - 4. यह वाक्यों की वाक्य रचना को समझने में मदद करता है।

Question ID : 630680896637
Option 1 ID : 6306803512516
Option 2 ID : 6306803512518
Option 3 ID : 6306803512515
Option 4 ID : 6306803512517

Q.3 What type of assessment is used to evaluate a student's understanding during the learning process and provide feedback for improvement?

- Ans
- 1. Summative assessment
 - 2. Formative assessment
 - 3. Authentic assessment
 - 4. Diagnostic assessment

Question ID : 630680896645
 Option 1 ID : 6306803512548
 Option 2 ID : 6306803512547
 Option 3 ID : 6306803512550
 Option 4 ID : 6306803512549

Q.4 What is the study of how individual words are combined to create sentences known as?

- Ans
- 1. Pragmatics
 - 2. Phonetics
 - 3. Semantics
 - 4. Syntax

Question ID : 630680896636
 Option 1 ID : 6306803512512
 Option 2 ID : 6306803512514
 Option 3 ID : 6306803512511
 Option 4 ID : 6306803512513

Q.5 ऑटिस्टिक सिंड्रोम विकार जैसी विकलांगता वाले युवा वयस्कों के लिए वयस्क बनने पर सबसे बड़ी चुनौती क्या है?

- Ans
- 1. परिवार के साथ बाहर जाना।
 - 2. नौकरी ढूँढना।
 - 3. नई चीजें सीखना।
 - 4. दोस्त बनाना।

Question ID : 630680896639
 Option 1 ID : 6306803512524
 Option 2 ID : 6306803512523
 Option 3 ID : 6306803512525
 Option 4 ID : 6306803512526

Q.6 दो स्वतंत्र समूहों के माध्यमों के बीच सार्थक अंतर है या नहीं, यह निर्धारित करने के लिए किस सांख्यिकीय परीक्षण का उपयोग किया जाता है?

- Ans
- 1. T-परीक्षण (T-test)
 - 2. प्रतिगमन विश्लेषण
 - 3. कार्ई-वर्ग परीक्षण (Chi-square test)
 - 4. एनोवा (ANOVA)

Question ID : 630680896643
 Option 1 ID : 6306803512540
 Option 2 ID : 6306803512542
 Option 3 ID : 6306803512539
 Option 4 ID : 6306803512541

Q.7 कौन-से व्यवहार किसी विद्यार्थी में निम्न मानसिक दक्षता का संकेत दे सकते हैं?

- Ans
- 1. शैक्षणिक उपलब्धियों में उत्कृष्टता।
 - 2. कक्षा की गतिविधियों में सक्रिय रूप से भाग लेना।
 - 3. याद की हुई जानकारी बार-बार भूल जाना।
 - 4. प्रबल आत्मविश्वास प्रदर्शित करना।

Question ID : 630680896641
 Option 1 ID : 6306803512531
 Option 2 ID : 6306803512534
 Option 3 ID : 6306803512532
 Option 4 ID : 6306803512533

Q.8 What is the measure of central tendency that represents the most frequently occurring value in a dataset?

- Ans
- 1. Range
 - 2. Mode
 - 3. Mean
 - 4. Median

Question ID : 630680896642
 Option 1 ID : 6306803512538
 Option 2 ID : 6306803512537
 Option 3 ID : 6306803512535
 Option 4 ID : 6306803512536

Q.9 भाषा कक्षाओं में गुणवत्तापूर्ण शिक्षण का मुख्य पहलू क्या है?

- Ans
- 1. न्यूनतम स्पष्टीकरण और सीमित मॉडलिंग प्रदान करना।
 - 2. विद्यार्थियों के प्रभाव, प्रेरणा और संज्ञान की अनदेखी करना।
 - 3. कार्यों और स्थितियों का प्रभार संभालने के लिए शिक्षण रणनीतियाँ।
 - 4. मचान कार्यप्रणाली (scaffolded practice) और कार्य पूरा करने में सहायता करने से बचना।

Question ID : 630680896638
 Option 1 ID : 6306803512519
 Option 2 ID : 6306803512520
 Option 3 ID : 6306803512521
 Option 4 ID : 6306803512522

Q.10 Which teaching method emphasizes student-centered learning, where the instructor acts as a facilitator rather than a lecturer?

- Ans
- 1. Direct instruction
 - 2. Traditional teaching
 - 3. Lecture-based instruction
 - 4. Inquiry-based learning

Question ID : 630680896644
 Option 1 ID : 6306803512543
 Option 2 ID : 6306803512544
 Option 3 ID : 6306803512545
 Option 4 ID : 6306803512546

Section : Teaching Methodology

Q.1 अनुकरण के बारे में निम्नलिखित में से कौन-सा कथन गलत है?

- Ans
- 1. अनुकरण अनुभवात्मक अधिगम का एक रूप है।
 - 2. अनुकरण में प्रतिस्पर्धात्मक अवयव होता है जिसका लक्ष्य जीतना होता है।
 - 3. यह रचनावादी अधिगम एवं शिक्षण के सिद्धांत का अनुसरण करता है।
 - 4. अनुकरण आलोचनात्मक और मूल्यांकनात्मक सोच के उपयोग को बढ़ावा देता है।

Question ID : 630680896660
Option 1 ID : 6306803512607
Option 2 ID : 6306803512610
Option 3 ID : 6306803512608
Option 4 ID : 6306803512609

Q.2 निम्नलिखित में से कौन-सा श्वाब के पाठ्यचर्या के पाँच सामान्य बिंदुओं में से नहीं है?

- Ans
- 1. सरकार
 - 2. अध्यापक
 - 3. विद्यार्थी
 - 4. पाठ्यचर्या निर्माण

Question ID : 630680896656
Option 1 ID : 6306803512593
Option 2 ID : 6306803512591
Option 3 ID : 6306803512592
Option 4 ID : 6306803512594

Q.3 हम उस परीक्षण को क्या कह सकते हैं जो यह जानकारी प्रदान करती है कि रूथ ने उस परीक्षण में भाग लेने वाले 60% लोगों से बेहतर प्रदर्शन किया है?

- Ans
- 1. नैदानिक परीक्षण (Diagnostic test)
 - 2. एकीकृत परीक्षण (Integrative test)
 - 3. निकष-संदर्भित परीक्षण (Criterion-referenced test)
 - 4. मानक-संदर्भित परीक्षण (Norm-referenced test)

Question ID : 630680896657
Option 1 ID : 6306803512597
Option 2 ID : 6306803512595
Option 3 ID : 6306803512598
Option 4 ID : 6306803512596

Q.4 Which of the following facts is NOT true about dyslexia?

- Ans
- 1. Dyslexia is a language-based learning disability.
 - 2. Dyslexia is due to lack of intelligence.
 - 3. People with dyslexia have difficulties with specific language skills, particularly reading.
 - 4. Dyslexia affects individuals throughout their lives.

Question ID : 630680896658
Option 1 ID : 6306803512599
Option 2 ID : 6306803512602
Option 3 ID : 6306803512600
Option 4 ID : 6306803512601

Q.5 हर्बर्टियन पाँच-चरण प्रणाली में निम्नलिखित में से किस चरण में 'पूर्व विचारों से तुलना और उनकी समानताओं एवं अंतरों पर विचार' शामिल है?

- Ans
- 1. सामान्यीकरण (Generalisation)
 - 2. संगम (Association)
 - 3. अनुप्रयोग (Application)
 - 4. प्रस्तुति (Presentation)

Question ID : 630680896655
Option 1 ID : 6306803512589
Option 2 ID : 6306803512588
Option 3 ID : 6306803512590
Option 4 ID : 6306803512587

Q.6 निम्नलिखित में से कौन-सा अधिगम के व्यवहारवादी एवं सामाजिक संज्ञानात्मक सिद्धांतों के बीच सहमति का बिंदु नहीं है?

- Ans
- 1. वे पर्यावरण और व्यक्तिगत कारकों के वर्णन के तरीके पर सहमत हैं।
 - 2. वे सहमत हैं कि अधिगम को बढ़ावा देने के लिए प्रतिपुष्टि महत्वपूर्ण है।
 - 3. व्यवहार की अपनी व्याख्या में वे पुनर्बलन और दंड की अवधारणा को शामिल करते हैं।
 - 4. वे सहमत हैं कि अनुभव, अधिगम का एक महत्वपूर्ण कारण है।

Question ID : 630680896651
Option 1 ID : 6306803512571
Option 2 ID : 6306803512573
Option 3 ID : 6306803512574
Option 4 ID : 6306803512572

Q.7 महिला शिक्षा के बारे में निम्नलिखित में से कौन-सा तथ्य सही है?

- Ans
- 1. विश्व की निरक्षर जनसंख्या में आधी भागीदारी महिलाओं की है।
 - 2. वैश्विक स्तर पर, ग्रामीण क्षेत्र में लड़कों की तुलना में अधिक लड़कियाँ माध्यमिक विद्यालयों में जाती हैं।
 - 3. शहरी लड़कियों की तुलना में ग्रामीण लड़कियों के विद्यालय न जाने की संभावना दोगुनी रहती है।
 - 4. प्राथमिक विद्यालय का प्रत्येक अतिरिक्त वर्ष लड़कियों को हिंसा के प्रति अधिक सुभेद्य बनाता है।

Question ID : 630680896654
Option 1 ID : 6306803512583
Option 2 ID : 6306803512584
Option 3 ID : 6306803512586
Option 4 ID : 6306803512585

Q.8 निम्नलिखित में से कौन-सा शिक्षा-शास्त्र का मूल नहीं है?

- Ans
- 1. शैक्षिक-प्रौद्योगिकी
 - 2. शैक्षिक-दर्शन
 - 3. शैक्षिक-इतिहास
 - 4. शैक्षिक-मनोविज्ञान

Question ID : 630680896653
Option 1 ID : 6306803512581
Option 2 ID : 6306803512579
Option 3 ID : 6306803512582
Option 4 ID : 6306803512580

Test

Prime

By Adda247

Previous Year Papers PDF

PRACTICE MORE, SCORE HIGHER!



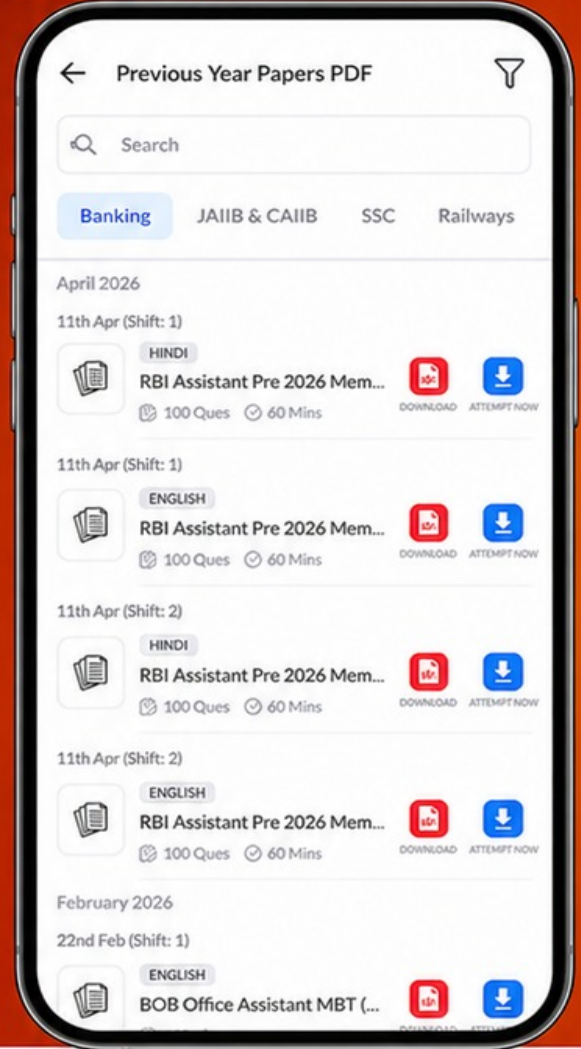
Free
25,000+
PDF's

High-Quality | Exam-Wise | Updated Regularly

ATTEMPT AS
MOCK



Turn PDFs into real exam experience.
Analyze. Improve. Succeed.



Topic-wise & Exam-wise PDFs



Download & Study Offline



Attempt as Mock & Track Score



Smart Analysis & Performance

AVAILABLE IN



Banking



SSC



Railway



Teaching



UGC



Agriculture



Nursing



Bihar



UP



Punjab



WB



Odisha



TN



AP & Telangana



Haryana



DOWNLOAD THE APP



Q.9 पाठ्यचर्या में भाषा का निम्नलिखित में से कौन-सा मूल सिद्धांत गलत है?

- Ans 1. भाषा का विकास मुख्य रूप से भाषा कक्षा शिक्षण में शब्दावली और व्याकरण पर अभ्यास के माध्यम से होता है।
2. भाषा, संज्ञानात्मक विकास में योगदान देती है।
3. संज्ञानात्मक विकास में भाषा एक पूर्वपिक्षा है।
4. भाषा, अधिगम को बेहतर बनाने का माध्यम है।

Question ID : 630680896652
Option 1 ID : 6306803512578
Option 2 ID : 6306803512576
Option 3 ID : 6306803512575
Option 4 ID : 6306803512577

Q.10 किशोरावस्था का विकासात्मक कार्य निम्नलिखित में से कौन-सा है?

- Ans 1. सामान्य खेलों के लिए आवश्यक शारीरिक कौशल सीखना
2. पुरुषोचित या स्त्रियोचित सामाजिक भूमिका प्राप्त करना
3. वृद्ध अभिभावकों के साथ समायोजन
4. लिंग भेद और यौन शालीनता सीखना

Question ID : 630680896659
Option 1 ID : 6306803512604
Option 2 ID : 6306803512603
Option 3 ID : 6306803512606
Option 4 ID : 6306803512605