

Question Paper Preview

Notations :

- 1.Options shown in green color and with ✓ icon are correct.
- 2.Options shown in red color and with ✗ icon are incorrect.

Subject Name :	Special Educator
Creation Date :	2021-10-17 16:10:35
Duration :	120
Total Marks :	200
Display Marks:	Yes
Share Answer Key With Delivery Engine :	No
Actual Answer Key :	Yes
Calculator :	None
Magnifying Glass Required? :	No
Ruler Required? :	No
Eraser Required? :	No
Scratch Pad Required? :	No
Rough Sketch/Notepad Required? :	No
Protractor Required? :	No
Show Watermark on Console? :	Yes
Highlighter :	No
Auto Save on Console? (SA type of questions will be always auto saved) :	No

General Ability

Group Number :	1
Group Id :	976755742
Group Maximum Duration :	0
Group Minimum Duration :	0

**Test
Prime**

By Adda247

ALL EXAMS, ONE SUBSCRIPTION



Test. Analyze. Improve. Repeat.



Don't just *prepare*. *Perform*.

Test Prime — built only for mock tests.



1,50,000+
Mock Tests



25,000+
Previous Year Papers



800+
Exam Covered



500% Refund
on Selection



5 lakh+
Free Quizzes



Daily
Free PDFs



Job Alerts
Stay Updated

- Multilingual
- Detailed Solution
- Strong and Weak Areas



**All India
Rankings**

Compete with lakhs.
Rank. Improve. Repeat.



← Adda247 test prime

Rating ▾

Editors' choice

New



Adda247 Test Prime
Adda Education • Education
Installed



DOWNLOAD THE APP



Show Attended Group? : No
Edit Attended Group? : No
Break time : 0
Group Marks : 20
Is this Group for Examiner? : No

General Ability

Section Id : 9767551172
Section Number : 1
Section type : Online
Mandatory or Optional : Mandatory
Number of Questions : 20
Number of Questions to be attempted : 20
Section Marks : 20
Enable Mark as Answered Mark for Review and Clear Response : Yes
Sub-Section Number : 1
Sub-Section Id : 9767551363
Question Shuffling Allowed : Yes

Question Number : 1 Question Id : 97675521421 Question Type : MCQ Option Shuffling : Yes Is Question Mandatory : No Option Orientation : Vertical

Correct Marks : 1 Wrong Marks : 0.25

Three statements are given, followed by two conclusions numbered I and II. Assuming the statements to be true, even if they seem to be at variance with commonly known facts, decide which of the conclusions logically follow(s) from the statements.

Statements:

All jokers are creative.
 All creative are educated.
 Some jokers are entertaining.

Conclusions:

I. Some educated are entertaining.
 II. Some creative are jokers.

Options :

- ✘ Only conclusion I follows
- ✘ Only conclusion II follows
- ✘ Either conclusion I or II follow
- ✔ Both conclusions I and II follow

Question Number : 1 Question Id : 97675521421 Question Type : MCQ Option Shuffling : Yes Is Question Mandatory : No Option Orientation : Vertical

Correct Marks : 1 Wrong Marks : 0.25

तीन कथन दिए गए हैं, उसके बाद दो निष्कर्ष I और II दिए गए हैं। कथनों को सत्य मानते हुए, भले ही वे सामान्यतः ज्ञात तथ्यों से भिन्न प्रतीत होते हों, यह निर्णय कीजिए कि कौन से निष्कर्ष कथनों का तार्किक रूप से अनुसरण करते हैं।

कथन:

सभी जोकर, रचनाशील हैं।

सभी रचनाशील, शिक्षित हैं।

कुछ जोकर, मनोरंजक हैं।

निष्कर्ष:

I. कुछ शिक्षित, मनोरंजक हैं।

II. कुछ रचनाशील, जोकर हैं।

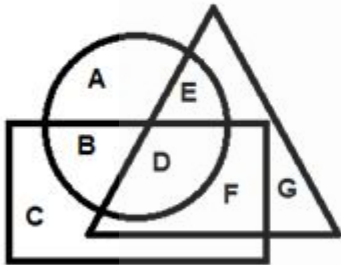
Options :

- ✘ केवल निष्कर्ष I अनुसरण करता है
- ✘ केवल निष्कर्ष II अनुसरण करता है
- ✘ या तो निष्कर्ष I या फिर II अनुसरण करता है
- ✔ निष्कर्ष I और II दोनों अनुसरण करते हैं

Question Number : 2 Question Id : 97675521422 Question Type : MCQ Option Shuffling : Yes Is Question Mandatory : No Option Orientation : Vertical

Correct Marks : 1 Wrong Marks : 0.25

In the following diagram, the 'Rectangle' stands for 'Musicians', the 'Circle' stands for 'Indians', 'Triangle' stands for 'Awardees'. The letters given in the different segments represent persons of that particular category.



Which of the following category is represented by the letter 'E'?

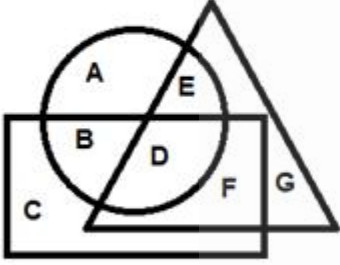
Options :

1. ✘ Awardee Musicians who are not Indians
2. ✔ Indian Awardees who are not Musicians
3. ✘ Indian Musicians who are not Awardees
4. ✘ Indian Awardees who are Musicians also

Question Number : 2 Question Id : 97675521422 Question Type : MCQ Option Shuffling : Yes Is Question Mandatory : No Option Orientation : Vertical

Correct Marks : 1 Wrong Marks : 0.25

निम्नलिखित आरेख में, 'आयत' का अर्थ 'संगीतकार' है, 'वृत्त' का अर्थ 'भारतीय' है, 'त्रिभुज' का अर्थ 'पुरस्कृत' है। विभिन्न खंडों में दिए गए अक्षर उस विशेष श्रेणी के व्यक्तियों को दर्शाते हैं।



निम्नलिखित में से किस श्रेणी को अक्षर 'E' द्वारा दर्शाया गया है?

Options :

1. ✘ पुरस्कृत संगीतकार जो भारतीय नहीं हैं
2. ✔ पुरस्कृत भारतीय जो संगीतकार नहीं हैं
3. ✘ भारतीय संगीतकार जो पुरस्कृत नहीं हैं
4. ✘ पुरस्कृत भारतीय जो संगीतकार भी हैं

Question Number : 3 Question Id : 97675521423 Question Type : MCQ Option Shuffling : Yes Is Question Mandatory : No Option Orientation : Vertical

Correct Marks : 1 Wrong Marks : 0.25

Select the option that represents the CORRECT order of the given words as they would appear in an English dictionary.

1. Change
2. Charity
3. Chores
4. Chariot
5. Chant

Options :

1. ✘ 1, 5, 2, 4, 3
2. ✘ 1, 4, 5, 2, 3
3. ✘ 5, 1, 4, 2, 3

4. ✓ 1, 5, 4, 2, 3

Question Number : 3 Question Id : 97675521423 Question Type : MCQ Option Shuffling : Yes Is Question Mandatory : No Option Orientation : Vertical

Correct Marks : 1 Wrong Marks : 0.25

उस विकल्प का चयन कीजिए जो दिए गए शब्दों के उस **सही** क्रम को दर्शाता है जिस क्रम में वे अंग्रेजी शब्दकोश में आते हैं।

1. Change
2. Charity
3. Chores
4. Chariot
5. Chant

Options :

1. ✗ 1, 5, 2, 4, 3
2. ✗ 1, 4, 5, 2, 3
3. ✗ 5, 1, 4, 2, 3
4. ✓ 1, 5, 4, 2, 3

Question Number : 4 Question Id : 97675521424 Question Type : MCQ Option Shuffling : Yes Is Question Mandatory : No Option Orientation : Vertical

Correct Marks : 1 Wrong Marks : 0.25

Select the letter-cluster that is related to the third letter-cluster in the same way as the second letter-cluster is related to the first letter-cluster.

PARTICLE : TRPLIECA :: CORTEX : ?

Options :

1. ✗ XTOREC
2. ✓ XTROEC
3. ✗ CTREOX
4. ✗ XRTOEC

Question Number : 4 Question Id : 97675521424 Question Type : MCQ Option Shuffling : Yes Is Question Mandatory : No Option Orientation : Vertical

Correct Marks : 1 Wrong Marks : 0.25

उस अक्षर-समूह का चयन कीजिए जो तीसरे अक्षर-समूह से उसी प्रकार से संबंधित है जिस प्रकार दूसरा अक्षर-समूह पहले अक्षर-समूह से संबंधित है।

PARTICLE : TRPLIECA :: CORTEX : ?

Options :

1. ✘ XTOREC
2. ✔ XTROEC
3. ✘ CTREOX
4. ✘ XRTOEC

Question Number : 5 Question Id : 97675521425 Question Type : MCQ Option Shuffling : Yes Is Question Mandatory : No Option Orientation : Vertical

Correct Marks : 1 Wrong Marks : 0.25

'Secured' is related to 'Dangerous' in the same way as 'Scarce' is related to '_____'.
A

Options :

1. ✘ Safe
2. ✘ Perilous
3. ✔ Abundant
4. ✘ Scanty

Question Number : 5 Question Id : 97675521425 Question Type : MCQ Option Shuffling : Yes Is Question Mandatory : No Option Orientation : Vertical

Correct Marks : 1 Wrong Marks : 0.25

'सुरक्षित', 'खतरनाक' से उसी प्रकार संबंधित है जिस प्रकार 'अपर्याप्त', '_____ ' से संबंधित है।
Adda247

Options :

1. ✘ सुरक्षित
2. ✘ जोखिम
3. ✔ पर्याप्त
4. ✘ अल्प

Question Number : 6 Question Id : 97675521426 Question Type : MCQ Option Shuffling : Yes Is Question Mandatory : No Option Orientation : Vertical

Correct Marks : 1 Wrong Marks : 0.25

If A # B means 'A is the husband of B' A % B means 'A is the daughter of B.' Then which of the following expression means 'M is the daughter of R'?

Options :

1. ✘ R % T # M
2. ✔ M % T # R
3. ✘ T % M # R
4. ✘ M # R % T

Question Number : 6 Question Id : 97675521426 Question Type : MCQ Option Shuffling : Yes Is Question Mandatory : No Option Orientation : Vertical

Correct Marks : 1 Wrong Marks : 0.25

यदि A # B का अर्थ है, 'A, B का पति है' A % B का अर्थ है, 'A, B की पुत्री है।' तो, निम्नलिखित में से किस व्यंजक का अर्थ है कि 'M, R की पुत्री है'?

Options :

1. ✘ R % T # M
2. ✔ M % T # R
3. ✘ T % M # R
4. ✘ M # R % T

Question Number : 7 Question Id : 97675521427 Question Type : MCQ Option Shuffling : Yes Is Question Mandatory : No Option Orientation : Vertical

Correct Marks : 1 Wrong Marks : 0.25

In a certain code language, EMOTION is written as PNFGOPJ, SECONDS is written as DFTLTEO. How will MONDAYS be written as in that language?

Options :

1. ✘ OPNUZTB
2. ✘ NPOVTZB
3. ✔ OPNWTZB
4. ✘ OPMWZTB

Question Number : 7 Question Id : 97675521427 Question Type : MCQ Option Shuffling : Yes Is Question Mandatory : No Option Orientation : Vertical

Correct Marks : 1 Wrong Marks : 0.25

किसी निश्चित कूट भाषा में EMOTION को PNFGOPJ लिखा जाता है, SECONDS को DFTLTEO लिखा जाता है। उसी कूट भाषा में MONDAYS को किस प्रकार लिखा जाएगा?

Options :

- ✘ OPNUZTB
- ✘ NPOVTZB
- ✔ OPNWTZB
- ✘ OPMWZTB

Question Number : 8 Question Id : 97675521428 Question Type : MCQ Option Shuffling : Yes Is Question Mandatory : No Option Orientation : Vertical

Correct Marks : 1 Wrong Marks : 0.25

In a code language, 'circle' is written as 'rice', 'rice' is written as 'colour', 'colour' is written as 'iron', 'iron' is written as 'red', and 'red' is written as 'blue'; then what is round in shape?

Options :

- ✘ circle
- ✔ rice
- ✘ iron
- ✘ red

Question Number : 8 Question Id : 97675521428 Question Type : MCQ Option Shuffling : Yes Is Question Mandatory : No Option Orientation : Vertical

Correct Marks : 1 Wrong Marks : 0.25

किसी कूट भाषा में, 'वृत्त' को 'चावल' लिखा जाता है, 'चावल' को 'रंग' लिखा जाता है, 'रंग' को 'लोहा' लिखा जाता है, 'लोहे' को 'लाल' लिखा जाता है, और 'लाल' को 'नीला' लिखा जाता है; तो किसका आकार गोल है?

Options :

- ✘ वृत्त
- ✔ चावल
- ✘ लोहा
- ✘ लाल

Question Number : 9 Question Id : 97675521429 Question Type : MCQ Option Shuffling : Yes Is Question Mandatory : No Option Orientation : Vertical

Correct Marks : 1 Wrong Marks : 0.25

Among four houses A, B, C and D; D is 40 m north to C. A is 60 m east to C. B is 50 m south to C. How far and in which direction is B with reference to D?

Options :

1. ✓ 90 m, South
2. ✗ 90 m, North
3. ✗ 110 m, South
4. ✗ 100 m, North

Question Number : 9 Question Id : 97675521429 Question Type : MCQ Option Shuffling : Yes Is Question Mandatory : No Option Orientation : Vertical

Correct Marks : 1 Wrong Marks : 0.25

चार घरों A, B, C और D में; D, C से 40 m उत्तर में है। A, C से 60 m पूर्व में है। B, C से 50 m दक्षिण में है। D के संदर्भ में, B कितनी दूर और किस दिशा में है?

Options :

1. ✓ 90 m, दक्षिण
2. ✗ 90 m, उत्तर
3. ✗ 110 m, दक्षिण
4. ✗ 100 m, उत्तर

Question Number : 10 Question Id : 97675521430 Question Type : MCQ Option Shuffling : Yes Is Question Mandatory : No Option Orientation : Vertical

Correct Marks : 1 Wrong Marks : 0.25

Four letter-clusters pairs have been given, out of which three are alike in some manner and one is different. Select the odd letter-cluster pair.

Options :

1. ✗ TONGS : SGNOT
2. ✗ PRIME : EMIRP
3. ✗ MARKS : SKRAM
4. ✓ FIRST : TRSIF

Question Number : 10 Question Id : 97675521430 Question Type : MCQ Option Shuffling : Yes Is Question Mandatory : No Option Orientation : Vertical

Correct Marks : 1 Wrong Marks : 0.25

विकल्पों में चार अक्षर-समूह युग्म दिए गए हैं, जिनमें से तीन किसी न किसी प्रकार से एक जैसे हैं और एक असंगत है। उस असंगत अक्षर-समूह युग्म का चयन कीजिए।

Options :

1. ✘ TONGS : SGNOT
2. ✘ PRIME : EMIRP
3. ✘ MARKS : SKRAM
4. ✔ FIRST : TRSIF

Question Number : 11 Question Id : 97675521431 Question Type : MCQ Option Shuffling : Yes Is Question Mandatory : No Option Orientation : Vertical

Correct Marks : 1 Wrong Marks : 0.25

Six letter-number-symbol clusters are given. Which of the two letters clusters are exactly similar.

- 1) G 5 S 5 \$ 5 # 2 K P R
- 2) G S 5 7 # 5 & 2 K P R
- 3) G S 5 7 \$ 5 # 2 K P R
- 4) G S 5 7 \$ 5 # 2 K B R
- 5) G S 5 7 \$ 5 # 2 K P R
- 6) G S 5 7 \$ 8 # 2 Y P R

Options :

1. ✘ 1) and 6)
2. ✘ 2) and 4)
3. ✔ 3) and 5)
4. ✘ 4) and 5)

Question Number : 11 Question Id : 97675521431 Question Type : MCQ Option Shuffling : Yes Is Question Mandatory : No Option Orientation : Vertical

Correct Marks : 1 Wrong Marks : 0.25

नीचे छः अक्षर-संख्या-प्रतीक समूह दिए गए हैं। कौन से दो अक्षर समूह बिलकुल समान हैं।

- 1) G 5 S 5 \$ 5 # 2 K P R
- 2) G S 5 7 # 5 & 2 K P R
- 3) G S 5 7 \$ 5 # 2 K P R
- 4) G S 5 7 \$ 5 # 2 K B R

5) G S 5 7 \$ 5 # 2 K P R

6) G S 5 7 \$ 8 # 2 Y P R

Options :

- ✘ 1) और 6)
- ✘ 2) और 4)
- ✔ 3) और 5)
- ✘ 4) और 5)

Question Number : 12 Question Id : 97675521432 Question Type : MCQ Option Shuffling : Yes Is Question Mandatory : No Option Orientation : Vertical

Correct Marks : 1 Wrong Marks : 0.25

Pointing to the photograph of a boy Ankur, Malti said, 'his father's only son is the brother of my daughter Damini.' How is Damini's father related to Malti?

Options :

- ✘ Father
- ✘ Brother
- ✔ Husband
- ✘ Nephew

Question Number : 12 Question Id : 97675521432 Question Type : MCQ Option Shuffling : Yes Is Question Mandatory : No Option Orientation : Vertical

Correct Marks : 1 Wrong Marks : 0.25

एक लड़के अंकुर की तस्वीर की ओर इशारा करते हुए मालती ने कहा, 'उसके पिता का इकलौता पुत्र मेरी पुत्री दामिनी का भाई है।' दामिनी के पिता का मालती से क्या संबंध है?

Options :

- ✘ पिता
- ✘ भाई
- ✔ पति
- ✘ भतीजा

Question Number : 13 Question Id : 97675521433 Question Type : MCQ Option Shuffling : Yes Is Question Mandatory : No Option Orientation : Vertical

Correct Marks : 1 Wrong Marks : 0.25

A statement is followed by two assumptions numbered I and II. Consider the statement and decide which of the given assumption(s) is/are implicit in the statement.

Statement:

The literacy rate in this village is abysmally low due to lack of awareness for education and non-availability of schools.

Assumptions:

- I. Nobody in the village is educated.
- II. Due to lack of education, the villagers have no means of livelihood.

Options :

- 1. ✘ Only assumption I is implicit
- 2. ✘ Only assumption II is implicit
- 3. ✘ Both assumptions are implicit
- 4. ✔ Neither assumption I nor II is implicit

Question Number : 13 Question Id : 97675521433 Question Type : MCQ Option Shuffling : Yes Is Question Mandatory : No Option Orientation : Vertical

Correct Marks : 1 Wrong Marks : 0.25

एक कथन के बाद दो पूर्वधारणाएं I और II दी गई हैं। कथन पर विचार कीजिए और तय कीजिए कि दी गई पूर्वधारणा(ओं) में से कौन सी कथन में निहित है/हैं।

कथन:

शिक्षा के प्रति जागरूकता की कमी और स्कूलों की अनुपलब्धता के कारण इस गांव में साक्षरता दर बहुत कम है।

पूर्वधारणाएं:

- I. गांव में कोई भी शिक्षित नहीं है।
- II. शिक्षा के अभाव में ग्रामीणों के पास आजीविका का कोई साधन नहीं है।

Options :

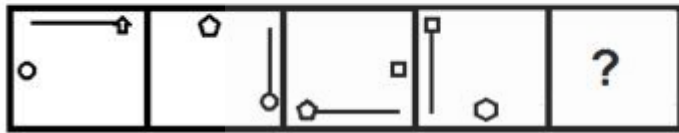
- 1. ✘ केवल पूर्वधारणा I निहित है
- 2. ✘ केवल पूर्वधारणा II निहित है
- 3. ✘ दोनों पूर्वधारणाएं निहित हैं
- 4. ✔ न तो पूर्वधारणा I और न ही II निहित है

Question Number : 14 Question Id : 97675521434 Question Type : MCQ Option Shuffling : Yes Is Question Mandatory : No Option

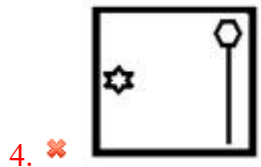
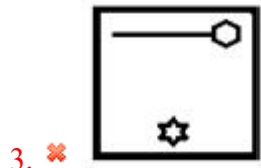
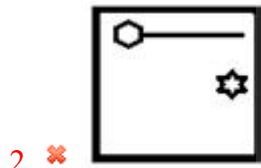
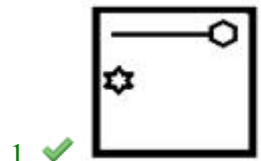
Orientation : Vertical

Correct Marks : 1 Wrong Marks : 0.25

Select the figure that will come next in the following figure series.



Options :

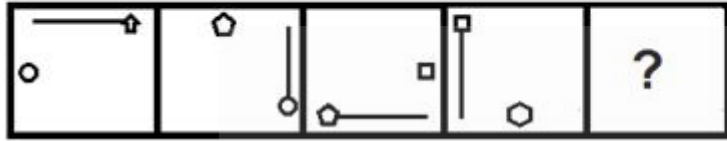


Question Number : 14 Question Id : 97675521434 Question Type : MCQ Option Shuffling : Yes Is Question Mandatory : No Option

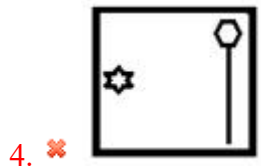
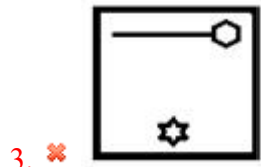
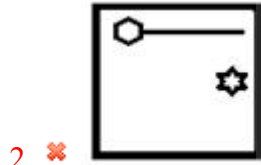
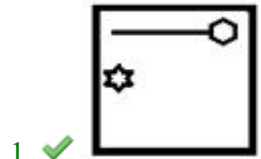
Orientation : Vertical

Correct Marks : 1 Wrong Marks : 0.25

विकल्पों में से उस आकृति का चयन कीजिए जो निम्नलिखित आकृति श्रेणी में आगे आएगी।




Options :

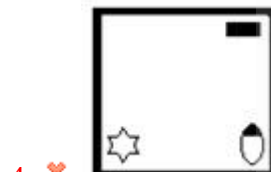
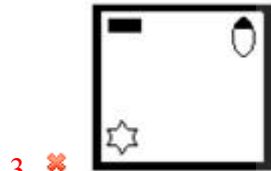
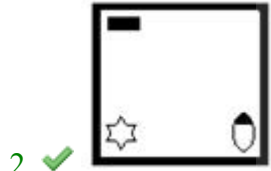
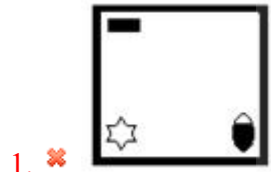


Question Number : 15 Question Id : 97675521435 Question Type : MCQ Option Shuffling : Yes Is Question Mandatory : No Option Orientation : Vertical Correct Marks : 1 Wrong Marks : 0.25

Select the figure that will replace the question mark (?) in the following figure series.

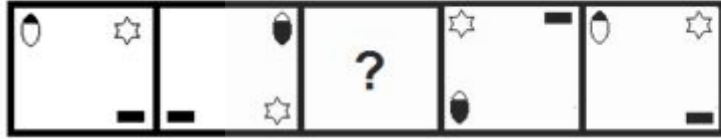


Options :

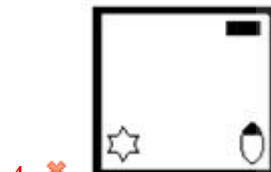
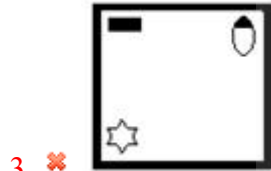
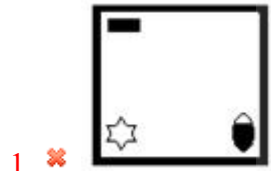


Question Number : 15 Question Id : 97675521435 Question Type : MCQ Option Shuffling : Yes Is Question Mandatory : No Option Orientation : Vertical Correct Marks : 1 Wrong Marks : 0.25

विकल्पों में से उस आकृति का चयन कीजिए जो निम्नलिखित आकृति श्रेणी में प्रश्न चिह्न (?) के स्थान पर आएगी।



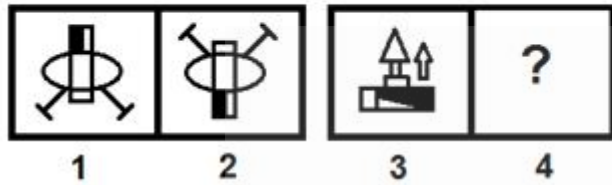
Options :



Question Number : 16 Question Id : 97675521436 Question Type : MCQ Option Shuffling : Yes Is Question Mandatory : No Option Orientation : Vertical

Correct Marks : 1 Wrong Marks : 0.25

Select the figure that is related to the third figure in the same way as the second figure is related to the first figure.

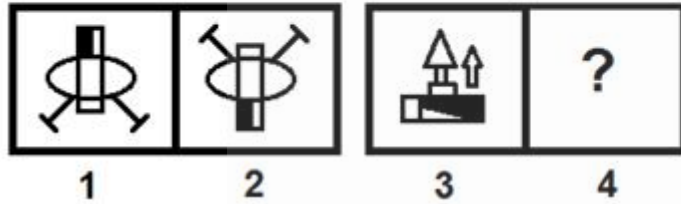


Options :

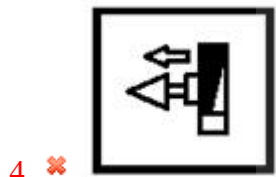


Question Number : 16 Question Id : 97675521436 Question Type : MCQ Option Shuffling : Yes Is Question Mandatory : No Option Orientation : Vertical Correct Marks : 1 Wrong Marks : 0.25

विकल्पों में से उस आकृति का चयन कीजिए जो तीसरी आकृति से उसी प्रकार संबंधित है जिस प्रकार दूसरी आकृति पहली आकृति से संबंधित है।



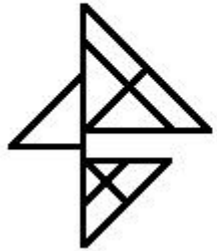
Options :



Orientation : Vertical

Correct Marks : 1 Wrong Marks : 0.25

How many triangles are there in the figure given below?



Options :

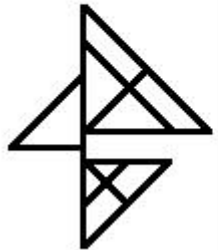
1. ✘ 12
2. ✔ 13
3. ✘ 14
4. ✘ 15

Question Number : 17 Question Id : 97675521437 Question Type : MCQ Option Shuffling : Yes Is Question Mandatory : No Option

Orientation : Vertical

Correct Marks : 1 Wrong Marks : 0.25

नीचे दी गई आकृति में कितने त्रिभुज हैं?



Options :

1. ✘ 12
2. ✔ 13
3. ✘ 14
4. ✘ 15

Question Number : 18 Question Id : 97675521438 Question Type : MCQ Option Shuffling : Yes Is Question Mandatory : No Option Orientation : Vertical

Correct Marks : 1 Wrong Marks : 0.25

Select the CORRECT mirror image of the given figure when the mirror is placed to its right side.

R K M 4 5 W A

Options :

1. ✘ **A W 5 4 M K R**

2. ✘ **A M 4 2 W R**

3. ✔ **A W 2 M 4 R K**

4. ✘ **A W 2 M 4 R K**

Question Number : 18 Question Id : 97675521438 Question Type : MCQ Option Shuffling : Yes Is Question Mandatory : No Option Orientation : Vertical

Correct Marks : 1 Wrong Marks : 0.25

दर्पण को नीचे दी गई आकृति के दायीं ओर रखे जाने पर निर्मित होने वाले इसके सही दर्पण प्रतिबिंब का चयन कीजिए।

R K M 4 5 W A

Options :

1. ✘ **A W 5 4 M K R**

2. ✘ A M 2 W 4 R K M 4 2 W A

3. ✔ A W 2 W 4 M K R

4. ✘ A W 2 W 4 M K R

Question Number : 19 Question Id : 97675521439 Question Type : MCQ Option Shuffling : Yes Is Question Mandatory : No Option Orientation : Vertical

Correct Marks : 1 Wrong Marks : 0.25

Which number in the following number series is WRONG?

15, 18, 20, 29, 45, 70, 106

Options :

1. ✔ 18
2. ✘ 29
3. ✘ 45
4. ✘ 20

Question Number : 19 Question Id : 97675521439 Question Type : MCQ Option Shuffling : Yes Is Question Mandatory : No Option Orientation : Vertical

Correct Marks : 1 Wrong Marks : 0.25

निम्नलिखित संख्या श्रेणी में कौन सी संख्या गलत है?

15, 18, 20, 29, 45, 70, 106

Options :

1. ✔ 18
2. ✘ 29
3. ✘ 45
4. ✘ 20

Question Number : 20 Question Id : 97675521440 Question Type : MCQ Option Shuffling : Yes Is Question Mandatory : No Option Orientation : Vertical

Correct Marks : 1 Wrong Marks : 0.25

Three of the given four number triads are similar in a certain manner while one is different. Choose the odd one out.

Options :

1. ✘ 7 : 347 : 4
2. ✔ 8 : 513 : 7
3. ✘ 9 : 734 : 5
4. ✘ 6 : 223 : 7

Question Number : 20 Question Id : 97675521440 Question Type : MCQ Option Shuffling : Yes Is Question Mandatory : No Option Orientation : Vertical

Correct Marks : 1 Wrong Marks : 0.25

विकल्पों में दिए गए चार संख्या त्रिकों में से तीन एक निश्चित तरीके से समान हैं जबकि एक असंगत है। उस असंगत संख्या त्रिक का चयन कीजिए।

Options :

1. ✘ 7 : 347 : 4
2. ✔ 8 : 513 : 7
3. ✘ 9 : 734 : 5
4. ✘ 6 : 223 : 7

General Awareness

Group Number :	2
Group Id :	976755743
Group Maximum Duration :	0
Group Minimum Duration :	0
Show Attended Group? :	No
Edit Attended Group? :	No
Break time :	0
Group Marks :	20
Is this Group for Examiner? :	No

General Awareness

Section Id :	9767551173
Section Number :	1
Section type :	Online
Mandatory or Optional :	Mandatory
Number of Questions :	20
Number of Questions to be attempted :	20
Section Marks :	20
Enable Mark as Answered Mark for Review and Clear Response :	Yes
Sub-Section Number :	1
Sub-Section Id :	9767551364
Question Shuffling Allowed :	Yes

Question Number : 21 Question Id : 97675521441 Question Type : MCQ Option Shuffling : Yes Is Question Mandatory : No Option Orientation : Vertical

Correct Marks : 1 Wrong Marks : 0.25

Recently who has been chosen as vice chief of indian navy in July 2021?

Options :

1. ✓ Vice Admiral S.N. Ghormade
2. ✗ Vice Admiral G. Ashok Kumar
3. ✗ Vice Admiral Ajit Kumar P
4. ✗ Vice Admiral Karambir Singh

Question Number : 21 Question Id : 97675521441 Question Type : MCQ Option Shuffling : Yes Is Question Mandatory : No Option Orientation : Vertical

Correct Marks : 1 Wrong Marks : 0.25

हाल ही में जुलाई 2021 में भारतीय नौसेना के उप प्रमुख के रूप में किसे चुना गया है?

Options :

1. ✓ वाइस एडमिरल एस.एन. घोरमडे
2. ✗ वाइस एडमिरल जी. अशोक कुमार

3. ✘ वाइस एडमिरल अजित कुमार पी
4. ✘ वाइस एडमिरल करमबीर सिंह

Question Number : 22 Question Id : 97675521442 Question Type : MCQ Option Shuffling : Yes Is Question Mandatory : No Option Orientation : Vertical

Correct Marks : 1 Wrong Marks : 0.25

Who launched the innovation mission Punjab?

Options :

1. ✘ Narendra Modi
2. ✔ Amrinder Singh
3. ✘ Rajnath Singh
4. ✘ Charanjit Singh Channi

Question Number : 22 Question Id : 97675521442 Question Type : MCQ Option Shuffling : Yes Is Question Mandatory : No Option Orientation : Vertical

Correct Marks : 1 Wrong Marks : 0.25

इनोवेशन मिशन पंजाब का शुभारंभ किसने किया?

Options :

1. ✘ नरेंद्र मोदी
2. ✔ अमरिंदर सिंह
3. ✘ राजनाथ सिंह
4. ✘ चरणजीत सिंह चन्नी

Question Number : 23 Question Id : 97675521443 Question Type : MCQ Option Shuffling : Yes Is Question Mandatory : No Option Orientation : Vertical

Correct Marks : 1 Wrong Marks : 0.25

In September 2021, who among the following was appointed as the brand ambassador of Samagra Shiksha Abhiyan in Assam?

Options :

1. ✘ Mirabai Chanu
2. ✘ PV Sindhu
3. ✔ Lovlina Borgohain

4. ✖ Avani Lekhara

Question Number : 23 Question Id : 97675521443 Question Type : MCQ Option Shuffling : Yes Is Question Mandatory : No Option Orientation : Vertical

Correct Marks : 1 Wrong Marks : 0.25

सितंबर 2021 में, निम्नलिखित में से असम में समग्र शिक्षा अभियान के ब्रांड एंबेसडर के रूप में किसे नियुक्त किया गया है?

Options :

1. ✖ मीराबाई चानू
2. ✖ पीवी सिंधु
3. ✔ लवलीना बोरगोहेन
4. ✖ अविनि लेखरा

Question Number : 24 Question Id : 97675521444 Question Type : MCQ Option Shuffling : Yes Is Question Mandatory : No Option Orientation : Vertical

Correct Marks : 1 Wrong Marks : 0.25

What is the theme of world cancer day 2021?

Options :

1. ✔ I am and I will
2. ✖ Not beyond us
3. ✖ We can, I can
4. ✖ You will win

Question Number : 24 Question Id : 97675521444 Question Type : MCQ Option Shuffling : Yes Is Question Mandatory : No Option Orientation : Vertical

Correct Marks : 1 Wrong Marks : 0.25

विश्व कैंसर दिवस 2021 का विषय (थीम) क्या है?

Options :

1. ✔ मैं हूँ और मैं रहूँगा (I am and I will)
2. ✖ हमसे आगे नहीं (Not beyond us)
3. ✖ हम कर सकते हैं, मैं कर सकता हूँ (We can, I can)
4. ✖ आप जीतेंगे (You will win)

Question Number : 25 Question Id : 97675521445 Question Type : MCQ Option Shuffling : Yes Is Question Mandatory : No Option Orientation : Vertical

Correct Marks : 1 Wrong Marks : 0.25

Who among the following became the first IAS officer to win a medal in Badminton at the Tokyo Paralympics games 2021?

Options :

1. ✘ Sukant Kadam
2. ✘ Pramod Bhagat
3. ✘ Parul Parmar
4. ✔ Suhas Lalinakere Yathiraj

Question Number : 25 Question Id : 97675521445 Question Type : MCQ Option Shuffling : Yes Is Question Mandatory : No Option Orientation : Vertical

Correct Marks : 1 Wrong Marks : 0.25

निम्नलिखित में से कौन टोक्यो पैरालिंपिक खेलों 2021 में बैडमिंटन में पदक जीतने वाले पहले आईएएस (IAS) अधिकारी बने?

Options :

1. ✘ सुकांत कदम
2. ✘ प्रमोद भगत
3. ✘ पारुल परमार
4. ✔ सुहास लालिनाकेरे यतिराज

Question Number : 26 Question Id : 97675521446 Question Type : MCQ Option Shuffling : Yes Is Question Mandatory : No Option Orientation : Vertical

Correct Marks : 1 Wrong Marks : 0.25

Name the plant found in indus valley whose roots and twigs have been widely used as toothbrush.

Options :

1. ✘ Proboscidea
2. ✘ Jammi
3. ✘ Azadirachta Indica
4. ✔ Salvadora Persica

Question Number : 26 Question Id : 97675521446 Question Type : MCQ Option Shuffling : Yes Is Question Mandatory : No Option

Orientation : Vertical

Correct Marks : 1 Wrong Marks : 0.25

सिंधु घाटी में पाए जाने वाले उस पौधे का नाम बताइए जिसकी जड़ों और टहनियों का दूधब्रश के रूप में व्यापक रूप से उपयोग किया जाता रहा है।

Options :

- ✘ प्रोबोसीडिया (Proboscidea)
- ✘ जम्मी (Jammi)
- ✘ अज़ादीरचता इंडिका (Azadirachta Indica)
- ✔ साल्वादोरा पर्सिका (Salvadora Persica)

Question Number : 27 Question Id : 97675521447 Question Type : MCQ Option Shuffling : Yes Is Question Mandatory : No Option

Orientation : Vertical

Correct Marks : 1 Wrong Marks : 0.25

In which of the following dance, an actor never opens his lips?

Options :

- ✔ Kathakali
- ✘ Mohiniyattam
- ✘ Kathak
- ✘ Kuchipudi

Question Number : 27 Question Id : 97675521447 Question Type : MCQ Option Shuffling : Yes Is Question Mandatory : No Option

Orientation : Vertical

Correct Marks : 1 Wrong Marks : 0.25

निम्नलिखित में से किस नृत्य में एक अभिनेता अपने होंठ कभी नहीं खोलता है?

Options :

- ✔ कथकली
- ✘ मोहिनीअट्टम
- ✘ कथक
- ✘ कुचिपुड़ी

Question Number : 28 Question Id : 97675521448 Question Type : MCQ Option Shuffling : Yes Is Question Mandatory : No Option

Orientation : Vertical

Correct Marks : 1 Wrong Marks : 0.25

In March 2021, 'Banana Festival' is organized in which city of Uttar Pradesh?

Options :

1. ✘ Sharanpur
2. ✘ Lakhnow
3. ✔ Kushinagar
4. ✘ Gorakhpur

Question Number : 28 Question Id : 97675521448 Question Type : MCQ Option Shuffling : Yes Is Question Mandatory : No Option Orientation : Vertical

Correct Marks : 1 Wrong Marks : 0.25

'केला महोत्सव' का आयोजन मार्च 2021 में उत्तर प्रदेश के किस शहर में किया गया?

Options :

1. ✘ सहारनपुर
2. ✘ लखनऊ
3. ✔ कुशीनगर
4. ✘ गोरखपुर

Question Number : 29 Question Id : 97675521449 Question Type : MCQ Option Shuffling : Yes Is Question Mandatory : No Option Orientation : Vertical

Correct Marks : 1 Wrong Marks : 0.25

What was the standard shape of harappan seals?

Options :

1. ✘ Rectangular
2. ✔ Square
3. ✘ Circular
4. ✘ Triangular

Question Number : 29 Question Id : 97675521449 Question Type : MCQ Option Shuffling : Yes Is Question Mandatory : No Option Orientation : Vertical

Correct Marks : 1 Wrong Marks : 0.25

हड़प्पा की मुहरों का मानक आकार क्या था?

Options :

1. ✘ आयताकार
2. ✔ वर्गाकार
3. ✘ वृत्ताकार
4. ✘ त्रिभुजाकार

Question Number : 30 Question Id : 97675521450 Question Type : MCQ Option Shuffling : Yes Is Question Mandatory : No Option Orientation : Vertical

Correct Marks : 1 Wrong Marks : 0.25

Who designed 'Hawa Mahal' situated in Jaipur?

Options :

1. ✘ Jai Singh
2. ✔ Lal Chand Ustad
3. ✘ Ratan Singh
4. ✘ Hari Singh

Question Number : 30 Question Id : 97675521450 Question Type : MCQ Option Shuffling : Yes Is Question Mandatory : No Option Orientation : Vertical

Correct Marks : 1 Wrong Marks : 0.25

जयपुर स्थित 'हवा महल' किसके द्वारा डिज़ाइन किया गया था?

Options :

1. ✘ जय सिंह
2. ✔ लाल चंद उस्ताद
3. ✘ रतन सिंह
4. ✘ हरि सिंह

Question Number : 31 Question Id : 97675521451 Question Type : MCQ Option Shuffling : Yes Is Question Mandatory : No Option Orientation : Vertical

Correct Marks : 1 Wrong Marks : 0.25

In which year Swami Dayanand Saraswati Established the Arya Samaj in Bombay?

Options :

1. ✓ 1875
2. ✗ 1775
3. ✗ 1857
4. ✗ 1757

Question Number : 31 Question Id : 97675521451 Question Type : MCQ Option Shuffling : Yes Is Question Mandatory : No Option Orientation : Vertical

Correct Marks : 1 Wrong Marks : 0.25

स्वामी दयानंद सरस्वती ने बॉम्बे में आर्य समाज की स्थापना किस वर्ष की थी?

Options :

1. ✓ 1875
2. ✗ 1775
3. ✗ 1857
4. ✗ 1757

Question Number : 32 Question Id : 97675521452 Question Type : MCQ Option Shuffling : Yes Is Question Mandatory : No Option Orientation : Vertical

Correct Marks : 1 Wrong Marks : 0.25

Which of the following states' Manda buffalo got the indigenous tag in 2021?

Options :

1. ✗ Haryana
2. ✗ Jharkhand
3. ✗ Punjab
4. ✓ Odisha

Question Number : 32 Question Id : 97675521452 Question Type : MCQ Option Shuffling : Yes Is Question Mandatory : No Option Orientation : Vertical

Correct Marks : 1 Wrong Marks : 0.25

निम्नलिखित में से किस राज्य की मांडा भैंस को 2021 में स्वदेशी नस्ल का तमगा (Indigenous Tag) मिला?

Options :

1. ✗ हरियाणा

2. ✘ झारखंड
3. ✘ पंजाब
4. ✔ ओडिशा

Question Number : 33 Question Id : 97675521453 Question Type : MCQ Option Shuffling : Yes Is Question Mandatory : No Option Orientation : Vertical

Correct Marks : 1 Wrong Marks : 0.25

Which state is lowest literacy rate in India in 2020?

Options :

1. ✔ Andhra Pradesh
2. ✘ Kerala
3. ✘ Punjab
4. ✘ Haryana

Question Number : 33 Question Id : 97675521453 Question Type : MCQ Option Shuffling : Yes Is Question Mandatory : No Option Orientation : Vertical

Correct Marks : 1 Wrong Marks : 0.25

2020 में भारत का सबसे कम साक्षरता दर वाला राज्य कौन सा था?

Options :

1. ✔ आंध्र प्रदेश
2. ✘ केरल
3. ✘ पंजाब
4. ✘ हरियाणा

Question Number : 34 Question Id : 97675521454 Question Type : MCQ Option Shuffling : Yes Is Question Mandatory : No Option Orientation : Vertical

Correct Marks : 1 Wrong Marks : 0.25

In union Budget 2021-22, how many Demands for grants were there?

Options :

1. ✔ 101
2. ✘ 90

3. ✘ 82

4. ✘ 89

Question Number : 34 Question Id : 97675521454 Question Type : MCQ Option Shuffling : Yes Is Question Mandatory : No Option Orientation : Vertical

Correct Marks : 1 Wrong Marks : 0.25

केंद्रीय बजट 2021-22 में, अनुदान की कितनी मांगें थी?

Options :

1. ✔ 101

2. ✘ 90

3. ✘ 82

4. ✘ 89

Question Number : 35 Question Id : 97675521455 Question Type : MCQ Option Shuffling : Yes Is Question Mandatory : No Option Orientation : Vertical

Correct Marks : 1 Wrong Marks : 0.25

Which of the following cooperative banks were penalised by the RBI for deficiency in regulatory compliance in September 2021?

Options :

1. ✔ Shikshak Sahakari Bank, Nagpur

2. ✘ Saraswat Cooperative Bank, Mumbai

3. ✘ Cosmos Cooperative Bank, Pune

4. ✘ Bharat Cooperative Bank, Ahmedabad

Question Number : 35 Question Id : 97675521455 Question Type : MCQ Option Shuffling : Yes Is Question Mandatory : No Option Orientation : Vertical

Correct Marks : 1 Wrong Marks : 0.25

आरबीआई द्वारा सितंबर 2021 में नियामक अनुपालन में कमी के लिए निम्नलिखित में से किस सहकारी बैंक को दंडित किया गया था?

Options :

1. ✔ शिक्षक सहकारी बैंक, नागपुर

2. ✘ सारस्वत सहकारी बैंक, मुंबई

3. ✘ कॉसमॉस सहकारी बैंक, पुणे

4. ✘ भारत सहकारी बैंक, अहमदाबाद

Question Number : 36 Question Id : 97675521456 Question Type : MCQ Option Shuffling : Yes Is Question Mandatory : No Option Orientation : Vertical

Correct Marks : 1 Wrong Marks : 0.25

What is the 127th Constitutional Amendment related to?

Options :

1. ✘ Extension for the deadline for cessation for the reservation of seats for members from Schedule castes and Schedule tribes in Lok Sabha.
2. ✔ To restore the power of the states to identify the backward classes.
3. ✘ To amend the provisions of the finance commission.
4. ✘ To amend the village and municipal laws.

Question Number : 36 Question Id : 97675521456 Question Type : MCQ Option Shuffling : Yes Is Question Mandatory : No Option Orientation : Vertical

Correct Marks : 1 Wrong Marks : 0.25

127वाँ संविधान संशोधन किससे संबंधित है?

Options :

1. ✘ लोकसभा में अनुसूचित जाति और जनजाति के सदस्यों के लिए सीटों के आरक्षण की समाप्ति की समय सीमा का विस्तार।
2. ✔ पिछड़े वर्गों की पहचान करने के लिए राज्यों की शक्ति को बहाल करना।
3. ✘ वित्त आयोग के प्रावधानों में संशोधन करना।
4. ✘ गाँव और नगरपालिका कानूनों में संशोधन करना।

Question Number : 37 Question Id : 97675521457 Question Type : MCQ Option Shuffling : Yes Is Question Mandatory : No Option Orientation : Vertical

Correct Marks : 1 Wrong Marks : 0.25

Which of the following is the most celebrated festival of Kerala?

Options :

1. ✘ Lohri
2. ✘ Teej
3. ✘ Losar
4. ✔ Onam

Question Number : 37 Question Id : 97675521457 Question Type : MCQ Option Shuffling : Yes Is Question Mandatory : No Option Orientation : Vertical

Correct Marks : 1 Wrong Marks : 0.25

निम्नलिखित में से कौन सा केरल का सबसे अधिक मनाया जाने वाला त्यौहार है?

Options :

1. ✘ लोहरी
2. ✘ तीज
3. ✘ लोसर
4. ✔ ओणम

Question Number : 38 Question Id : 97675521458 Question Type : MCQ Option Shuffling : Yes Is Question Mandatory : No Option Orientation : Vertical

Correct Marks : 1 Wrong Marks : 0.25

In which part of Rajasthan was the 200 million years old footprints of 3 species of dinosaurs found in 2021?

Options :

1. ✘ Bikaner
2. ✔ Jaisalmer
3. ✘ Pushkar
4. ✘ Jodhpur

Question Number : 38 Question Id : 97675521458 Question Type : MCQ Option Shuffling : Yes Is Question Mandatory : No Option Orientation : Vertical

Correct Marks : 1 Wrong Marks : 0.25

राजस्थान के किस भाग में वर्ष 2021 में डायनासोर की 3 प्रजातियों के 200 मिलियन वर्ष पुराने पैरों के निशान पाए गए थे?

Options :

1. ✘ बीकानेर
2. ✔ जैसलमेर
3. ✘ पुष्कर
4. ✘ जोधपुर

Question Number : 39 Question Id : 97675521459 Question Type : MCQ Option Shuffling : Yes Is Question Mandatory : No Option Orientation : Vertical

Correct Marks : 1 Wrong Marks : 0.25

Which of the following hormone is secreted by thyroid Gland?

Options :

1. ✓ Thyroxine
2. ✗ Aldosterone
3. ✗ Prolactin
4. ✗ Angiotensin

Question Number : 39 Question Id : 97675521459 Question Type : MCQ Option Shuffling : Yes Is Question Mandatory : No Option Orientation : Vertical

Correct Marks : 1 Wrong Marks : 0.25

निम्नलिखित में से कौन सा हार्मोन थायरॉयड ग्रंथि द्वारा स्रावित होता है?

Options :

1. ✓ थाइरोक्सिन (Thyroxine)
2. ✗ एल्डोस्टीरोन (Aldosterone)
3. ✗ प्रोलैक्टिन (Prolactin)
4. ✗ एंजियोटेनसिन (Angiotensin)

Question Number : 40 Question Id : 97675521460 Question Type : MCQ Option Shuffling : Yes Is Question Mandatory : No Option Orientation : Vertical

Correct Marks : 1 Wrong Marks : 0.25

Which of the following is NOT an example of convectional current?

Options :

1. ✗ Boiling of Water
2. ✗ Ocean currents
3. ✗ Campfires
4. ✓ Ironing of clothes

Question Number : 40 Question Id : 97675521460 Question Type : MCQ Option Shuffling : Yes Is Question Mandatory : No Option Orientation : Vertical

Correct Marks : 1 Wrong Marks : 0.25

निम्नलिखित विकल्पों में से कौन सा संवहन धारा का उदाहरण नहीं है?

Options :

1. ✘ पानी का उबलना
2. ✘ समुद्री धाराएं
3. ✘ कैप फायर
4. ✔ कपड़े पर इस्त्री (प्रेस) करना

Arithmetic Ability

Group Number :	3
Group Id :	976755744
Group Maximum Duration :	0
Group Minimum Duration :	0
Show Attended Group? :	No
Edit Attended Group? :	No
Break time :	0
Group Marks :	20
Is this Group for Examiner? :	No

Arithmetic Ability

Section Id :	9767551174
Section Number :	1
Section type :	Online
Mandatory or Optional :	Mandatory
Number of Questions :	20
Number of Questions to be attempted :	20
Section Marks :	20
Enable Mark as Answered Mark for Review and Clear Response :	Yes
Sub-Section Number :	1
Sub-Section Id :	9767551365

Question Shuffling Allowed :

Yes

Question Number : 41 Question Id : 97675521461 Question Type : MCQ Option Shuffling : Yes Is Question Mandatory : No Option Orientation : Vertical

Correct Marks : 1 Wrong Marks : 0.25

If $x = (0.9\bar{3} \div 0.\bar{84}) \times 0.\bar{72} + 0.\bar{4}$, then the value of $(1.125x - 0.6)$ is:

Options :

1. ✓ 0.8
2. ✗ 0.75
3. ✗ 0.5
4. ✗ 0.525

Question Number : 41 Question Id : 97675521461 Question Type : MCQ Option Shuffling : Yes Is Question Mandatory : No Option Orientation : Vertical

Correct Marks : 1 Wrong Marks : 0.25

यदि $x = (0.9\bar{3} \div 0.\bar{84}) \times 0.\bar{72} + 0.\bar{4}$ है, तो $(1.125x - 0.6)$ का मान क्या होगा?

Options :

1. ✓ 0.8
2. ✗ 0.75
3. ✗ 0.5
4. ✗ 0.525

Question Number : 42 Question Id : 97675521462 Question Type : MCQ Option Shuffling : Yes Is Question Mandatory : No Option Orientation : Vertical

Correct Marks : 1 Wrong Marks : 0.25

In a school, the number of girls is $\frac{4}{5}$ th of the number of boys. If $\frac{3}{4}$ th of the number of girls and $\frac{2}{3}$ rd of the number of boys took part in a social camp, then what part of the total students did NOT take part in the camp?

Options :

1. ✗ $\frac{8}{15}$

2. ✘ $\frac{3}{5}$

3. ✘ $\frac{4}{5}$

4. ✔ $\frac{8}{27}$

Question Number : 42 Question Id : 97675521462 Question Type : MCQ Option Shuffling : Yes Is Question Mandatory : No Option Orientation : Vertical

Correct Marks : 1 Wrong Marks : 0.25

एक विद्यालय में लड़कियों की संख्या लड़कों की संख्या की $\frac{4}{5}$ है। यदि एक सामाजिक शिविर में लड़कियों की संख्या के $\frac{3}{4}$ और लड़कों की संख्या के $\frac{2}{3}$ भाग ने हिस्सा लिया, तो कुल विद्यार्थियों के कितने भाग ने शिविर में हिस्सा नहीं लिया?

Options :

1. ✘ $\frac{8}{15}$

2. ✘ $\frac{3}{5}$

3. ✘ $\frac{4}{5}$

4. ✔ $\frac{8}{27}$

Question Number : 43 Question Id : 97675521463 Question Type : MCQ Option Shuffling : Yes Is Question Mandatory : No Option Orientation : Vertical

Correct Marks : 1 Wrong Marks : 0.25

The HCF of 767, 2006 and 2773 is x . What is the sum of the digits of x ?

Options :

1. ✘ 11
2. ✘ 12
3. ✘ 13
4. ✔ 14

Question Number : 43 Question Id : 97675521463 Question Type : MCQ Option Shuffling : Yes Is Question Mandatory : No Option Orientation : Vertical

Correct Marks : 1 Wrong Marks : 0.25

767, 2006 और 2773 का महत्तम समापवर्तक (HCF) x है। x के अंकों का योग क्या होगा?

Options :

1. ✘ 11
2. ✘ 12
3. ✘ 13
4. ✔ 14

Question Number : 44 Question Id : 97675521464 Question Type : MCQ Option Shuffling : Yes Is Question Mandatory : No Option Orientation : Vertical

Correct Marks : 1 Wrong Marks : 0.25

LCM and HCF of x and y are 7821 and 79, respectively. If x is divided by 8, the quotient is 88 and the remainder is 7. The value of y is:

Options :

1. ✘ 790
2. ✘ 1027
3. ✔ 869
4. ✘ 948

Question Number : 44 Question Id : 97675521464 Question Type : MCQ Option Shuffling : Yes Is Question Mandatory : No Option Orientation : Vertical

Correct Marks : 1 Wrong Marks : 0.25

x और y के लघुत्तम समापवर्त्य (LCM) और महत्तम समापवर्तक (HCF) क्रमशः 7821 और 79 हैं। यदि x को 8 से विभाजित किया जाता है, तो भागफल 88 आता है और शेषफल 7 बचता है। y का मान क्या होगा?

Options :

1. ✘ 790
2. ✘ 1027
3. ✔ 869
4. ✘ 948

Question Number : 45 Question Id : 97675521465 Question Type : MCQ Option Shuffling : Yes Is Question Mandatory : No Option Orientation : Vertical

Correct Marks : 1 Wrong Marks : 0.25

Let 'n' be the least number which when divided by 176, 330 and 495, the remainder in each case is 23 and 'n' is divisible by 29. What is the value of 'n'?

Options :

1. ✘ 15776
2. ✘ 15834
3. ✔ 15863
4. ✘ 15921

Question Number : 45 Question Id : 97675521465 Question Type : MCQ Option Shuffling : Yes Is Question Mandatory : No Option Orientation : Vertical

Correct Marks : 1 Wrong Marks : 0.25

मान लीजिए कि 'n' वह छोटी से छोटी संख्या है जिसे 176, 330 और 495 से विभाजित करने पर प्रत्येक स्थिति में शेषफल 23 बचता है और 'n', 29 से विभाज्य है। 'n' का मान क्या होगा?

Options :

1. ✘ 15776
2. ✘ 15834
3. ✔ 15863
4. ✘ 15921

Question Number : 46 Question Id : 97675521466 Question Type : MCQ Option Shuffling : Yes Is Question Mandatory : No Option Orientation : Vertical

Correct Marks : 1 Wrong Marks : 0.25

In 2021, a cricket team wants to win 80% of games out of 240 games to be played. Out of 90 games already played, the success rate is 70%. What should be the success rate for the remaining games in order to reach the target?

Options :

1. ✘ 71.4%
2. ✘ 78.6%
3. ✘ 80%
4. ✔ 86%

Question Number : 46 Question Id : 97675521466 Question Type : MCQ Option Shuffling : Yes Is Question Mandatory : No Option Orientation : Vertical

Correct Marks : 1 Wrong Marks : 0.25

2021 में, एक क्रिकेट टीम खेले जाने वाले 240 मैचों में से 80% मैच जीतना चाहती है। उसके द्वारा पहले खेले जा चुके 90 मैचों में से, सफलता दर 70% है। लक्ष्य तक पहुंचने के लिए शेष खेलों की सफलता दर कितनी होनी चाहिए?

Options :

1. ✘ 71.4%
2. ✘ 78.6%
3. ✘ 80%
4. ✔ 86%

Question Number : 47 Question Id : 97675521467 Question Type : MCQ Option Shuffling : Yes Is Question Mandatory : No Option Orientation : Vertical

Correct Marks : 1 Wrong Marks : 0.25

Two washing machines A and B are bought for a total of ₹ 12,900. Washing machine A is sold at 10% loss and B at 25% profit. If the selling price of both the machines is the same, then the cost price of A exceeds the cost price of B by:

Options :

1. ✘ ₹ 1,750
2. ✔ ₹ 2,100
3. ✘ ₹ 2,000

4. ✖ ₹ 2,400

Question Number : 47 Question Id : 97675521467 Question Type : MCQ Option Shuffling : Yes Is Question Mandatory : No Option Orientation : Vertical

Correct Marks : 1 Wrong Marks : 0.25

दो वॉशिंग मशीनें A और B कुल ₹ 12,900 में खरीदी जाती हैं। वॉशिंग मशीन A को 10% हानि पर और B को 25% लाभ पर बेचा जाता है। यदि दोनों मशीनों का विक्रय मूल्य समान है, तो A का क्रय मूल्य B के क्रय मूल्य से कितना अधिक है?

Options :

1. ✖ ₹ 1,750

2. ✔ ₹ 2,100

3. ✖ ₹ 2,000

4. ✖ ₹ 2,400

Question Number : 48 Question Id : 97675521468 Question Type : MCQ Option Shuffling : Yes Is Question Mandatory : No Option Orientation : Vertical

Correct Marks : 1 Wrong Marks : 0.25

The present ages of A and B are in the ratio 3 : 8. After 9 years, the ratio of their ages will be 6 : 13. What was the ratio of the ages of A and B, 6 years ago?

Options :

1. ✖ 2 : 5

2. ✖ 7 : 15

3. ✖ 5 : 12

4. ✔ 3 : 10

Question Number : 48 Question Id : 97675521468 Question Type : MCQ Option Shuffling : Yes Is Question Mandatory : No Option Orientation : Vertical

Correct Marks : 1 Wrong Marks : 0.25

A और B की वर्तमान आयु का अनुपात 3 : 8 है। 9 वर्ष बाद, उनकी आयु का अनुपात 6 : 13 होगा। 6 वर्ष पूर्व A और B की आयु का अनुपात क्या था?

Options :

1. ✖ 2 : 5

2. ✖ 7 : 15

3. ✖ 5 : 12

4. ✓ 3 : 10

Question Number : 49 Question Id : 97675521469 Question Type : MCQ Option Shuffling : Yes Is Question Mandatory : No Option Orientation : Vertical

Correct Marks : 1 Wrong Marks : 0.25

A certain sum amounts to ₹ 11,200 in 4 years and to ₹ 12,950 in $6\frac{1}{2}$ years at a certain rate per cent p.a., both at simple interest. The sum (in ₹) and the rate of interest p.a. respectively, are:

Options :

1. ✗ 8,000 and 9%
2. ✓ 8,400 and $8\frac{1}{3}\%$
3. ✗ 8,500 and $8\frac{2}{3}\%$
4. ✗ 8,500 and $8\frac{1}{2}\%$

Question Number : 49 Question Id : 97675521469 Question Type : MCQ Option Shuffling : Yes Is Question Mandatory : No Option Orientation : Vertical

Correct Marks : 1 Wrong Marks : 0.25

एक निश्चित वार्षिक प्रतिशत दर पर एक निश्चित धन-राशि 4 वर्षों में ₹ 11,200 और $6\frac{1}{2}$ वर्षों में ₹ 12,950, दोनों पर साधारण ब्याज ही मिलता है। धन-राशि (₹ में) और ब्याज की वार्षिक प्रतिशत दर क्या है?

Options :

1. ✗ 8,000 और 9%
2. ✓ 8,400 और $8\frac{1}{3}\%$

3. ✘ 8,500 और $8\frac{2}{3}\%$

4. ✘ 8,500 और $8\frac{1}{2}\%$

Question Number : 50 Question Id : 97675521470 Question Type : MCQ Option Shuffling : Yes Is Question Mandatory : No Option Orientation : Vertical

Correct Marks : 1 Wrong Marks : 0.25

What is the compound interest on the sum of ₹ 6,000 at 10% p.a in $3\frac{4}{5}$ years, interest compounded annually? (nearest to a ₹)

Options :

1. ✔ ₹ 2,625
2. ✘ ₹ 2,635
3. ✘ ₹ 2,715
4. ✘ ₹ 2,745

Question Number : 50 Question Id : 97675521470 Question Type : MCQ Option Shuffling : Yes Is Question Mandatory : No Option Orientation : Vertical

Correct Marks : 1 Wrong Marks : 0.25

₹ 6,000 की धन-राशि पर $3\frac{4}{5}$ वर्षों में 10% वार्षिक ब्याज की दर से चक्रवृद्धि ब्याज कितना होगा, ब्याज की गणना वार्षिक रूप में होती है? (₹ के निकटतम)

Options :

1. ✔ ₹ 2,625
2. ✘ ₹ 2,635
3. ✘ ₹ 2,715
4. ✘ ₹ 2,745

Question Number : 51 Question Id : 97675521471 Question Type : MCQ Option Shuffling : Yes Is Question Mandatory : No Option Orientation : Vertical

Correct Marks : 1 Wrong Marks : 0.25

The marked price of an article is ₹ x. A shopkeeper earns 25% profit by selling it at a discount of $16\frac{2}{3}\%$ on its marked price. If the cost price of the article is ₹ 120, then what is the value of x?

Options :

1. ✘ 175
2. ✔ 180
3. ✘ 190
4. ✘ 200

Question Number : 51 Question Id : 97675521471 Question Type : MCQ Option Shuffling : Yes Is Question Mandatory : No Option Orientation : Vertical

Correct Marks : 1 Wrong Marks : 0.25

एक वस्तु का अंकित मूल्य ₹ x है। एक दुकानदार इसे इसके अंकित मूल्य पर $16\frac{2}{3}\%$ की छूट देते हुए बेचकर 25% लाभ अर्जित करता है। यदि वस्तु का क्रय मूल्य ₹ 120 है, तो x का मान क्या होगा?

Options :

1. ✘ 175
2. ✔ 180
3. ✘ 190
4. ✘ 200

Question Number : 52 Question Id : 97675521472 Question Type : MCQ Option Shuffling : Yes Is Question Mandatory : No Option Orientation : Vertical

Correct Marks : 1 Wrong Marks : 0.25

The average of 42 numbers is 52.5. If the average of first 16 numbers is 55 and that of last 6 numbers is 50.5, then what is the average of the remaining numbers?

Options :

1. ✔ 51.1
2. ✘ 51.8
3. ✘ 52.4
4. ✘ 53.6

Question Number : 52 Question Id : 97675521472 Question Type : MCQ Option Shuffling : Yes Is Question Mandatory : No Option Orientation : Vertical

Correct Marks : 1 Wrong Marks : 0.25

42 संख्याओं का औसत 52.5 है। यदि आरंभिक 16 संख्याओं का औसत 55 है और अंतिम 6 संख्याओं का औसत 50.5 है, तो शेष संख्याओं का औसत क्या होगा?

Options :

1. ✓ 51.1
2. ✗ 51.8
3. ✗ 52.4
4. ✗ 53.6

Question Number : 53 Question Id : 97675521473 Question Type : MCQ Option Shuffling : Yes Is Question Mandatory : No Option Orientation : Vertical

Correct Marks : 1 Wrong Marks : 0.25

The average marks obtained by 60 students in a test is 50. If the average marks of the passed students is 54 and that of students who failed is 30, then what is the number of students who passed?

Options :

1. ✓ 50
2. ✗ 48
3. ✗ 45
4. ✗ 42

Question Number : 53 Question Id : 97675521473 Question Type : MCQ Option Shuffling : Yes Is Question Mandatory : No Option Orientation : Vertical

Correct Marks : 1 Wrong Marks : 0.25

एक परीक्षा में 60 छात्रों द्वारा प्राप्त औसत अंक 50 हैं। यदि उत्तीर्ण छात्रों के औसत अंक 54 हैं और अनुत्तीर्ण छात्रों के औसत अंक 30 हैं, तो उत्तीर्ण छात्रों की संख्या कितनी है?

Options :

1. ✓ 50
2. ✗ 48
3. ✗ 45

4. ✖ 42

Question Number : 54 Question Id : 97675521474 Question Type : MCQ Option Shuffling : Yes Is Question Mandatory : No Option Orientation : Vertical

Correct Marks : 1 Wrong Marks : 0.25

Pipes A and B can fill an empty tank in 15 hours and 20 hours, respectively. While pipe C alone can empty the full tank in 10 hours. A and B are opened together for 8 hours and then both pipes are closed and C is opened. C alone will empty the tank completely in

Options :

1. ✖ $8\frac{2}{3}$ hours
2. ✖ 8 hours
3. ✔ $9\frac{1}{3}$ hours
4. ✖ 9 hours

Question Number : 54 Question Id : 97675521474 Question Type : MCQ Option Shuffling : Yes Is Question Mandatory : No Option Orientation : Vertical

Correct Marks : 1 Wrong Marks : 0.25

पाइप A और B एक खाली टैंक को क्रमशः 15 घंटे और 20 घंटे में भर सकते हैं। जबकि पाइप C अकेले पूरी टंकी को 10 घंटे में खाली कर सकता है। A और B को एक साथ 8 घंटे के लिए खोला जाता है और फिर दोनों पाइपों को बंद कर दिया जाता है और केवल C को खोल दिया जाता है। अकेले C टैंक को पूरी तरह कितने समय में खाली कर देगा?

Options :

1. ✖ $8\frac{2}{3}$ घंटे
2. ✖ 8 घंटे
3. ✔ $9\frac{1}{3}$ घंटे

4. ✖ 9 घंटे

Question Number : 55 Question Id : 97675521475 Question Type : MCQ Option Shuffling : Yes Is Question Mandatory : No Option Orientation : Vertical

Correct Marks : 1 Wrong Marks : 0.25

Pipe A can fill an empty tank in 20 minutes, whereas pipes B and C can empty full tank in 15 minutes and 12 minutes respectively. A alone was opened for 9 minutes, then it is closed and B and C were opened together. How much time (in minutes) will B and C together take to completely empty the tank?

Options :

1. ✔ 3
2. ✖ 4
3. ✖ 5
4. ✖ 6

Question Number : 55 Question Id : 97675521475 Question Type : MCQ Option Shuffling : Yes Is Question Mandatory : No Option Orientation : Vertical

Correct Marks : 1 Wrong Marks : 0.25

पाइप A एक खाली टैंक को 20 मिनट में भर सकता है, जबकि पाइप B और C पूरी भरी हुई टंकी को क्रमशः 15 मिनट और 12 मिनट में खाली कर सकते हैं। A को अकेले 9 मिनट के लिए खोला गया, फिर उसे बंद कर दिया गया और B और C को एक साथ खोल दिया गया। B और C मिलकर टंकी को पूरी तरह खाली करने में कितना समय (मिनट में) लेंगे?

Options :

1. ✔ 3
2. ✖ 4
3. ✖ 5
4. ✖ 6

Question Number : 56 Question Id : 97675521476 Question Type : MCQ Option Shuffling : Yes Is Question Mandatory : No Option Orientation : Vertical

Correct Marks : 1 Wrong Marks : 0.25

The distance between two places X and Y is 300 km. A car starts from X and another car starts from Y at the same time on the same day and

move towards each other. The distance between them after 2 hours is 50 km. If the speed of the car that starts from X is 25 km/h less than that of the other, then what is the speed (in km/h) of the car which starts from Y?

Options :

- ✘ 50
- ✘ 60
- ✔ 75
- ✘ 80

Question Number : 56 Question Id : 97675521476 Question Type : MCQ Option Shuffling : Yes Is Question Mandatory : No Option Orientation : Vertical

Correct Marks : 1 Wrong Marks : 0.25

दो स्थानों X और Y के बीच की दूरी 300 km है। एक कार X से चलना आरंभ करती है और दूसरी कार Y से उसी दिन उसी समय चलना आरंभ करती है और दोनों एक दूसरे की ओर बढ़ती हैं। 2 घंटे के बाद उनके बीच की दूरी 50 km रह जाती है। यदि X से चलने वाली कार की चाल दूसरी कार की तुलना में 25 km/h कम है, तो Y से चलने वाली कार की चाल (km/h में) क्या होगी?

Options :

- ✘ 50
- ✘ 60
- ✔ 75
- ✘ 80

Question Number : 57 Question Id : 97675521477 Question Type : MCQ Option Shuffling : Yes Is Question Mandatory : No Option Orientation : Vertical

Correct Marks : 1 Wrong Marks : 0.25

The perimeter of the base of a right circular cylinder is 176 cm and its height is 40 cm. What is the capacity (in litres)

of the cylinder? (Take $\pi = \frac{22}{7}$)

Options :

- ✘ 86.24
- ✘ 92.4
- ✔ 98.56
- ✘ 123.2

Question Number : 57 Question Id : 97675521477 Question Type : MCQ Option Shuffling : Yes Is Question Mandatory : No Option Orientation : Vertical

Correct Marks : 1 Wrong Marks : 0.25

एक लंब वृत्तीय बेलन के आधार का परिमाण 176 cm है और इसकी ऊँचाई 40 cm है। बेलन की धारिता (लीटर में) क्या होगी? ($\pi = \frac{22}{7}$ मानें)

Options :

1. ✘ 86.24
2. ✘ 92.4
3. ✔ 98.56
4. ✘ 123.2

Question Number : 58 Question Id : 97675521478 Question Type : MCQ Option Shuffling : Yes Is Question Mandatory : No Option Orientation : Vertical

Correct Marks : 1 Wrong Marks : 0.25

A wire is in the shape of a circle of radius 35 cm. This wire (whole) is used to form a rectangle whose sides are in the ratio 7 : 4. What is the area (in cm^2) of the rectangle? (Take $\pi = \frac{22}{7}$)

Options :

1. ✘ 1008
2. ✘ 2268
3. ✔ 2800
4. ✘ 3850

Question Number : 58 Question Id : 97675521478 Question Type : MCQ Option Shuffling : Yes Is Question Mandatory : No Option Orientation : Vertical

Correct Marks : 1 Wrong Marks : 0.25

एक तार 35 cm त्रिज्या वाले एक वृत्त के आकार में है। इस तार (संपूर्ण) का प्रयोग एक आयत बनाने के लिए किया जाता है जिसकी भुजाएं 7 : 4 के अनुपात में हैं। आयत का क्षेत्रफल (cm^2 में) क्या होगा? ($\pi = \frac{22}{7}$ मानें)

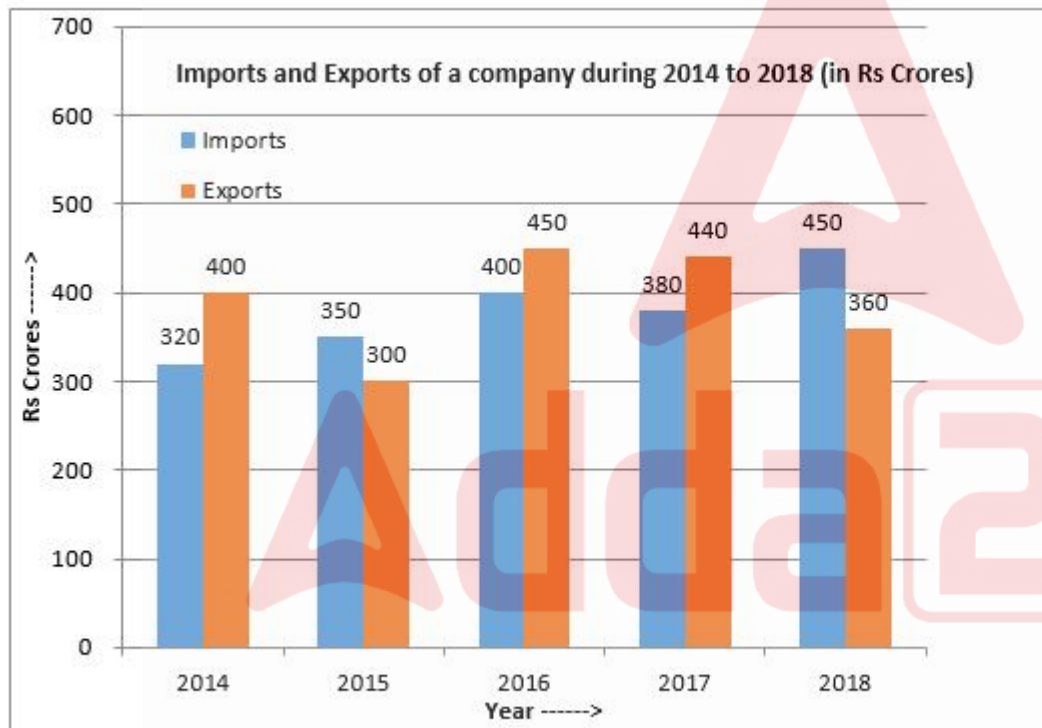
Options :

1. ✘ 1008
2. ✘ 2268
3. ✔ 2800
4. ✘ 3850

Question Number : 59 Question Id : 97675521479 Question Type : MCQ Option Shuffling : Yes Is Question Mandatory : No Option Orientation : Vertical

Correct Marks : 1 Wrong Marks : 0.25

Study the following bar graph and answer the questions.



The total imports of the company in 2014 and 2017 is what percent more than the average exports in 2017 and 2018?

Options :

1. ✘ 42.9%

2. ✘ 65.5%

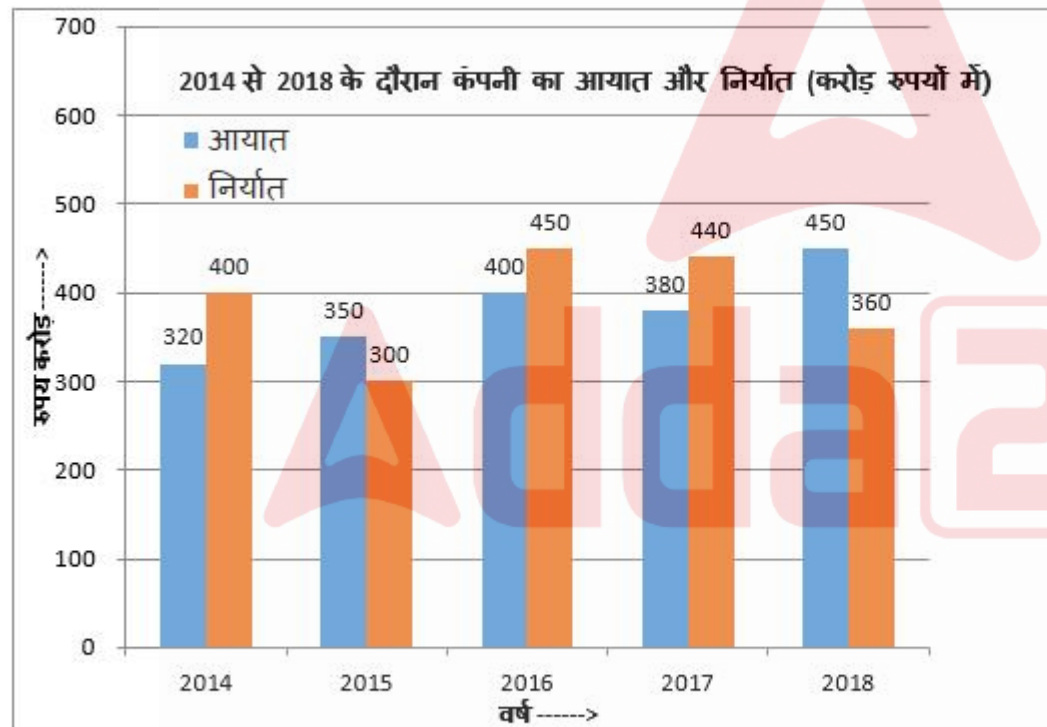
3. ✘ $66\frac{2}{3}\%$

4. ✔ 75%

Question Number : 59 Question Id : 97675521479 Question Type : MCQ Option Shuffling : Yes Is Question Mandatory : No Option Orientation : Vertical

Correct Marks : 1 Wrong Marks : 0.25

निम्नलिखित बार ग्राफ का अध्ययन करें और उससे संबंधित प्रश्नों के उत्तर दें।



2014 और 2017 में कंपनी का कुल आयात 2017 और 2018 में औसत निर्यात से कितने प्रतिशत अधिक है?

Options :

1. ✘ 42.9%
2. ✘ 65.5%
3. ✘ $66\frac{2}{3}\%$
4. ✔ 75%

Question Number : 60 Question Id : 97675521480 Question Type : MCQ Option Shuffling : Yes Is Question Mandatory : No Option Orientation : Vertical

Correct Marks : 1 Wrong Marks : 0.25

Study the following table and answer the question.

Number of students enrolled for vocational courses in institutes A, B, C and D in years 2015 to 2019

Year→ Institute	2015	2016	2017	2018	2019
A	142	135	158	140	143
B	140	145	142	135	130
C	138	150	152	147	133
D	150	140	155	138	145

What is the ratio of the total number of students enrolled in 2018 in all the four institutes to the total number of students enrolled in institute C in all the five years?

Options :

1. ✘ 4 : 5
2. ✘ 6 : 7
3. ✔ 7 : 9
4. ✘ 8 : 9

Question Number : 60 Question Id : 97675521480 Question Type : MCQ Option Shuffling : Yes Is Question Mandatory : No Option Orientation : Vertical

Correct Marks : 1 Wrong Marks : 0.25

निम्नलिखित तालिका का अध्ययन करें और उससे संबंधित प्रश्नों के उत्तर दें।

वर्ष 2015 से 2019 तक संस्थानों A, B, C और D में व्यावसायिक पाठ्यक्रमों के लिए नामांकित विद्यार्थियों की संख्या

वर्ष→ संस्थान	2015	2016	2017	2018	2019
A	142	135	158	140	143
B	140	145	142	135	130
C	138	150	152	147	133
D	150	140	155	138	145

सभी चार संस्थानों में 2018 में नामांकित विद्यार्थियों की कुल संख्या और सभी पाँच वर्षों में संस्थान C में नामांकित विद्यार्थियों की संख्या का अनुपात क्या है?

Options :

1. ✘ 4 : 5
2. ✘ 6 : 7
3. ✔ 7 : 9
4. ✘ 8 : 9

General English

Group Number :	4
Group Id :	976755745
Group Maximum Duration :	0
Group Minimum Duration :	0
Show Attended Group? :	No
Edit Attended Group? :	No

Break time : 0
Group Marks : 20
Is this Group for Examiner? : No

General English

Section Id : 9767551175
Section Number : 1
Section type : Online
Mandatory or Optional : Mandatory
Number of Questions : 16
Number of Questions to be attempted : 16
Section Marks : 20
Enable Mark as Answered Mark for Review and Clear Response : Yes
Sub-Section Number : 1
Sub-Section Id : 9767551366
Question Shuffling Allowed : Yes

Question Number : 61 Question Id : 97675521481 Question Type : MCQ Option Shuffling : Yes Is Question Mandatory : No Option Orientation : Vertical

Correct Marks : 1 Wrong Marks : 0.25

The following text contains four underlined words or phrases. One is incorrect. Choose the INCORRECT option.

Be the youngest child, Kiran was her father's favourite.

Options :

1. ✓ Be
2. ✗ youngest
3. ✗ was
4. ✗ father's

Question Number : 61 Question Id : 97675521481 Question Type : MCQ Option Shuffling : Yes Is Question Mandatory : No Option Orientation : Vertical

Correct Marks : 1 Wrong Marks : 0.25

The following text contains four underlined words or phrases. One is incorrect. Choose the INCORRECT option.

Be the youngest child, Kiran was her father's favourite.

Options :

1. ✓ Be
2. ✗ youngest
3. ✗ was
4. ✗ father's

Question Number : 62 Question Id : 97675521482 Question Type : MCQ Option Shuffling : Yes Is Question Mandatory : No Option Orientation : Vertical

Correct Marks : 1 Wrong Marks : 0.25

The following text contains four underlined words or phrases. One is incorrect. Choose the INCORRECT option.

Everything is strange here because this new job is different from any I'm done before.

Options :

1. ✗ Everything
2. ✗ is
3. ✗ this
4. ✓ I'm

Question Number : 62 Question Id : 97675521482 Question Type : MCQ Option Shuffling : Yes Is Question Mandatory : No Option Orientation : Vertical

Correct Marks : 1 Wrong Marks : 0.25

The following text contains four underlined words or phrases. One is incorrect. Choose the INCORRECT option.

Everything is strange here because this new job is different from any I'm done before.

Options :

1. ✗ Everything
2. ✗ is
3. ✗ this
4. ✓ I'm

Question Number : 63 Question Id : 97675521483 Question Type : MCQ Option Shuffling : Yes Is Question Mandatory : No Option Orientation : Vertical

Correct Marks : 1 Wrong Marks : 0.25

Rearrange the parts of the sentence in CORRECT order.

was praised by both (P) / the policeman (Q) / who caught the thief (R) / his senior officers and the public (S)

Options :

1. ✘ RQPS
2. ✘ SQRP
3. ✔ QRPS
4. ✘ QPSR

Question Number : 63 Question Id : 97675521483 Question Type : MCQ Option Shuffling : Yes Is Question Mandatory : No Option Orientation : Vertical

Correct Marks : 1 Wrong Marks : 0.25

Rearrange the parts of the sentence in CORRECT order.

was praised by both (P) / the policeman (Q) / who caught the thief (R) / his senior officers and the public (S)

Options :

1. ✘ RQPS
2. ✘ SQRP
3. ✔ QRPS
4. ✘ QPSR

Question Number : 64 Question Id : 97675521484 Question Type : MCQ Option Shuffling : Yes Is Question Mandatory : No Option Orientation : Vertical

Correct Marks : 1 Wrong Marks : 0.25

Rearrange the parts of the sentence in CORRECT order.

when he grows up (P) / wants to (Q) / my brother (R) / become a teacher (S)

Options :

1. ✔ RQSP
2. ✘ RSPQ

3. ✘ QPSR
4. ✘ PQRS

Question Number : 64 Question Id : 97675521484 Question Type : MCQ Option Shuffling : Yes Is Question Mandatory : No Option Orientation : Vertical

Correct Marks : 1 Wrong Marks : 0.25

Rearrange the parts of the sentence in CORRECT order.

when he grows up (P) / wants to (Q) / my brother (R) / become a teacher (S)

Options :

1. ✔ RQSP
2. ✘ RSPQ
3. ✘ QPSR
4. ✘ PQRS

Question Number : 65 Question Id : 97675521485 Question Type : MCQ Option Shuffling : Yes Is Question Mandatory : No Option Orientation : Vertical

Correct Marks : 1 Wrong Marks : 0.25

Choose the CORRECT meaning of the following idiom from the options given below.

To turn turtle

Options :

1. ✘ To get married
2. ✔ To turn upside down
3. ✘ To get promotion
4. ✘ To get money

Question Number : 65 Question Id : 97675521485 Question Type : MCQ Option Shuffling : Yes Is Question Mandatory : No Option Orientation : Vertical

Correct Marks : 1 Wrong Marks : 0.25

Choose the CORRECT meaning of the following idiom from the options given below.

To turn turtle

Options :

- ✘ To get married
- ✔ To turn upside down
- ✘ To get promotion
- ✘ To get money

Question Number : 66 Question Id : 97675521486 Question Type : MCQ Option Shuffling : Yes Is Question Mandatory : No Option Orientation : Vertical

Correct Marks : 1 Wrong Marks : 0.25

Select the option is appropriate for the blanks.

These books belong to my parents. Put _____ books _____, on the that shelf.

Options :

- ✔ their; there
- ✘ there; there
- ✘ their; their
- ✘ there; their

Question Number : 66 Question Id : 97675521486 Question Type : MCQ Option Shuffling : Yes Is Question Mandatory : No Option Orientation : Vertical

Correct Marks : 1 Wrong Marks : 0.25

Select the option is appropriate for the blanks.

These books belong to my parents. Put _____ books _____, on the that shelf.

Options :

- ✔ their; there
- ✘ there; there
- ✘ their; their
- ✘ there; their

Question Number : 67 Question Id : 97675521487 Question Type : MCQ Option Shuffling : Yes Is Question Mandatory : No Option Orientation : Vertical

Correct Marks : 1 Wrong Marks : 0.25

Select the option that is the CORRECT meaning of the underlined idiom.

As if we did not have enough trouble, now the cat has disappeared. It never rains but pours.

Options :

1. ✓ unending troubles
2. ✗ heavy downpour
3. ✗ a cat in the rain
4. ✗ troubles due to rains

Question Number : 67 Question Id : 97675521487 Question Type : MCQ Option Shuffling : Yes Is Question Mandatory : No Option Orientation : Vertical

Correct Marks : 1 Wrong Marks : 0.25

Select the option that is the CORRECT meaning of the underlined idiom.

As if we did not have enough trouble, now the cat has disappeared. It never rains but pours.

Options :

1. ✓ unending troubles
2. ✗ heavy downpour
3. ✗ a cat in the rain
4. ✗ troubles due to rains

Question Number : 68 Question Id : 97675521488 Question Type : MCQ Option Shuffling : Yes Is Question Mandatory : No Option Orientation : Vertical

Correct Marks : 1 Wrong Marks : 0.25

Select the word which means the same as the group of words given.

A natural abode of an animal or plant

Options :

1. ✗ forest
2. ✓ habitat
3. ✗ flora
4. ✗ fauna

Question Number : 68 Question Id : 97675521488 Question Type : MCQ Option Shuffling : Yes Is Question Mandatory : No Option Orientation : Vertical

Correct Marks : 1 Wrong Marks : 0.25

Select the word which means the same as the group of words given.

A natural abode of an animal or plant

Options :

1. ✘ forest
2. ✔ habitat
3. ✘ flora
4. ✘ fauna

Question Number : 69 Question Id : 97675521489 Question Type : MCQ Option Shuffling : Yes Is Question Mandatory : No Option Orientation : Vertical

Correct Marks : 1 Wrong Marks : 0.25

Select the word which means the same as the group of words given.

A study of rocks and soils

Options :

1. ✘ archeology
2. ✔ geology
3. ✘ paleontology
4. ✘ pathology

Question Number : 69 Question Id : 97675521489 Question Type : MCQ Option Shuffling : Yes Is Question Mandatory : No Option Orientation : Vertical

Correct Marks : 1 Wrong Marks : 0.25

Select the word which means the same as the group of words given.

A study of rocks and soils

Options :

1. ✘ archeology
2. ✔ geology

3. ✘ paleontology
4. ✘ pathology

Question Number : 70 Question Id : 97675521490 Question Type : MCQ Option Shuffling : Yes Is Question Mandatory : No Option Orientation : Vertical

Correct Marks : 1 Wrong Marks : 0.25

Select the option that is appropriate for the blank.

The cat was sleeping _____ the box, but when it heard the doorbell ring it ran _____ the door .

Options :

1. ✘ into; for
2. ✘ from; to
3. ✔ in; to
4. ✘ in; against

Question Number : 70 Question Id : 97675521490 Question Type : MCQ Option Shuffling : Yes Is Question Mandatory : No Option Orientation : Vertical

Correct Marks : 1 Wrong Marks : 0.25

Select the option that is appropriate for the blank.

The cat was sleeping _____ the box, but when it heard the doorbell ring it ran _____ the door .

Options :

1. ✘ into; for
2. ✘ from; to
3. ✔ in; to
4. ✘ in; against

Question Number : 71 Question Id : 97675521491 Question Type : MCQ Option Shuffling : Yes Is Question Mandatory : No Option Orientation : Vertical

Correct Marks : 1 Wrong Marks : 0.25

I eat a _____ every day because it's my favourite fruit.

Options :

1. ✘ pair

2. ✓ pear
3. ✗ peer
4. ✗ pare

Question Number : 71 Question Id : 97675521491 Question Type : MCQ Option Shuffling : Yes Is Question Mandatory : No Option Orientation : Vertical

Correct Marks : 1 Wrong Marks : 0.25

I eat a _____ every day because it's my favourite fruit.

Options :

1. ✗ pair
2. ✓ pear
3. ✗ peer
4. ✗ pare

Question Number : 72 Question Id : 97675521492 Question Type : MCQ Option Shuffling : Yes Is Question Mandatory : No Option Orientation : Vertical

Correct Marks : 1 Wrong Marks : 0.25

Choose the option that is the HOMONYM with the meanings 'to pull apart' and a hole in a piece of paper or cloth'.

Options :

1. ✓ Tear
2. ✗ Peer
3. ✗ Dear
4. ✗ Rear

Question Number : 72 Question Id : 97675521492 Question Type : MCQ Option Shuffling : Yes Is Question Mandatory : No Option Orientation : Vertical

Correct Marks : 1 Wrong Marks : 0.25

Choose the option that is the HOMONYM with the meanings 'to pull apart' and a hole in a piece of paper or cloth'.

Options :

1. ✓ Tear
2. ✗ Peer
3. ✗ Dear

4. ✖ Rear

Question Number : 73 Question Id : 97675521493 Question Type : MCQ Option Shuffling : Yes Is Question Mandatory : No Option Orientation : Vertical

Correct Marks : 1 Wrong Marks : 0.25

Choose the correct ANTONYM for the given word.

Damage

Options :

1. ✔ repair
2. ✖ violate
3. ✖ release
4. ✖ weaken

Question Number : 73 Question Id : 97675521493 Question Type : MCQ Option Shuffling : Yes Is Question Mandatory : No Option Orientation : Vertical

Correct Marks : 1 Wrong Marks : 0.25

Choose the correct ANTONYM for the given word.

Damage

Options :

1. ✔ repair
2. ✖ violate
3. ✖ release
4. ✖ weaken

Question Number : 74 Question Id : 97675521494 Question Type : MCQ Option Shuffling : Yes Is Question Mandatory : No Option Orientation : Vertical

Correct Marks : 1 Wrong Marks : 0.25

Select the meaning of the UNDERLINED idiom in the given sentence.

The honest don't like a hole and corner policy.

Options :

- ✘ Average
- ✘ Medium
- ✘ Open
- ✔ Secretive

Question Number : 74 Question Id : 97675521494 Question Type : MCQ Option Shuffling : Yes Is Question Mandatory : No Option Orientation : Vertical

Correct Marks : 1 Wrong Marks : 0.25

Select the meaning of the UNDERLINED idiom in the given sentence.

The honest don't like a hole and corner policy.

Options :

- ✘ Average
- ✘ Medium
- ✘ Open
- ✔ Secretive

Question Number : 75 Question Id : 97675521495 Question Type : MCQ Option Shuffling : Yes Is Question Mandatory : No Option Orientation : Vertical

Correct Marks : 1 Wrong Marks : 0.25

In the following sentence, four words or phrases have been UNDERLINED. Identify the word or phrase which has an error in it.

He rose his hand every time the teacher asked a question.

Options :

- ✔ rose
- ✘ his hand
- ✘ every time
- ✘ asked a question

Question Number : 75 Question Id : 97675521495 Question Type : MCQ Option Shuffling : Yes Is Question Mandatory : No Option Orientation : Vertical

Correct Marks : 1 Wrong Marks : 0.25

In the following sentence, four words or phrases have been UNDERLINED. Identify the word or phrase which has an error in it.

He rose his hand every time the teacher asked a question.

Options :

1. ✓ rose
2. ✗ his hand
3. ✗ every time
4. ✗ asked a question

Sub-Section Number : 2
Sub-Section Id : 9767551367
Question Shuffling Allowed : Yes

Question Id : 97675521496 Question Type : COMPREHENSION Sub Question Shuffling Allowed : Yes Group Comprehension Questions : No

Question Numbers : (76 to 80)

Read the following passage carefully and answer the questions given below.

Once, Tenali Raman, who was well-known for his intelligence and wit, set out on a long journey. He carried with him a small bundle that had some food, money and gold jewels. In those days, one had to walk through the jungle to get to another place. On the way Tenali Raman met a young man who said to him, "Sir, there are many thieves here. I am afraid they will rob me. Can I join you?" Thinking that it would be good to have some company, Raman readily agreed.

That night, the two of them stopped at a travellers' rest house. Raman was tired and soon fell asleep. His companion was waiting for this moment. In fact, he was a thief who used to rob travellers. He got up and looked under Raman's pillow without disturbing him. He found nothing. He carefully searched Raman's pockets looking for money. To his disappointment, he did not even find a copper coin! Then, he opened the bundle that Raman was carrying. Again, he found nothing. The next morning the two men continued on their journey. That night they decided to rest outside a small temple. Being very tired after a long day's travel, Raman quickly fell asleep. Again, his companion searched Raman's belongings, looking for money and valuables but this time too he ended up being disappointed.

The next day, the two travellers reached the holy city of Tirupati and it was time for them to part ways. The companion confessed that he was a thief. He said, "In all these years that I have been a thief I have never failed. But this time I failed. Now that we are parting company, please tell me where you had hidden your money and valuables. If I don't know your secret, I may not be able to sleep," he said. Raman smiled and said, "I knew you were a thief the moment I saw you. I took care to hide the money where you would never find it."

"But where? I looked for it everywhere," cried out the thief.

"Did you look for it under your pillow?" asked Raman.

"I looked for it under your pillow and found nothing. Why should I look for your money under my pillow?" asked the puzzled thief. "That's because I hid the money under your pillow," said Raman, "I was confident that it was the one place you would never look for my money and valuables."

Sub questions

Question Number : 76 Question Id : 97675521497 Question Type : MCQ Option Shuffling : Yes Is Question Mandatory : No Option Orientation : Vertical

Correct Marks : 1 Wrong Marks : 0.25

The young man joined Raman on his journey by saying that:

Options :

- ✘ he could be Raman's guide to the holy city.
- ✘ he wanted to be his pupil
- ✔ he may be robbed by thieves .
- ✘ he had great respect for his intelligence.

Question Number : 77 Question Id : 97675521498 Question Type : MCQ Option Shuffling : Yes Is Question Mandatory : No Option Orientation : Vertical

Correct Marks : 1 Wrong Marks : 0.25

According to the passage, the young man's actual reason for wanting to travel with Raman was that:

Options :

- ✘ he was afraid of travelling alone.
- ✔ he wanted to rob him.
- ✘ he did not know the way.
- ✘ he was his friend.

Question Number : 78 Question Id : 97675521499 Question Type : MCQ Option Shuffling : Yes Is Question Mandatory : No Option Orientation : Vertical

Correct Marks : 1 Wrong Marks : 0.25

According to the passage, the young man was disappointed both the times because:

Options :

- ✔ he could not find Raman's money and valuables.
- ✘ Raman did not fall asleep .
- ✘ he realized that Raman was a poor man.
- ✘ he only found copper coins in Raman's pocket.

Question Number : 79 Question Id : 97675521500 Question Type : MCQ Option Shuffling : Yes Is Question Mandatory : No Option Orientation : Vertical

Correct Marks : 1 Wrong Marks : 0.25

The young man confessed that he was a thief because:

Options :

- ✘ he was caught while stealing the money.
- ✘ he realized that Raman was a good man.
- ✘ it was the last time that he would be meeting Raman
- ✔ it was the first time that he had failed to rob a man.

Question Number : 80 Question Id : 97675521501 Question Type : MCQ Option Shuffling : Yes Is Question Mandatory : No Option Orientation : Vertical

Correct Marks : 1 Wrong Marks : 0.25

Raman hid his money under the young man's pillow because:

Options :

- ✘ the pillow was big enough to hold the money and valuables.
- ✔ he knew that the robber would not think of looking there.
- ✘ it was too heavy to be kept inside his pocket.
- ✘ he did not have a pillow of his own.

Question Id : 97675521496 Question Type : COMPREHENSION Sub Question Shuffling Allowed : Yes Group Comprehension Questions : No

Question Numbers : (76 to 80)

Read the following passage carefully and answer the questions given below.

Once, Tenali Raman, who was well-known for his intelligence and wit, set out on a long journey. He carried with him a small bundle that had some food, money and gold jewels. In those days, one had to walk through the jungle to get to another place. On the way Tenali Raman met a young man who said to him, "Sir, there are many thieves here. I am afraid they will rob me. Can I join you?" Thinking that it would be good to have some company, Raman readily agreed.

That night, the two of them stopped at a travellers' rest house. Raman was tired and soon fell asleep. His companion was waiting for this moment. In fact, he was a thief who used to rob travellers. He got up and looked under Raman's pillow without disturbing him. He found nothing. He carefully searched Raman's pockets looking for money. To his disappointment, he did not even find a copper coin! Then, he opened the bundle that Raman was carrying. Again, he found nothing. The next morning the two men continued on their journey. That night they decided to rest outside a small temple. Being very tired after a long day's travel, Raman quickly fell asleep. Again, his companion searched Raman's belongings, looking for money and valuables but this time too he ended up being disappointed.

The next day, the two travellers reached the holy city of Tirupati and it was time for them to part ways. The companion confessed that he was a thief. He said, "In all these years that I have been a thief I have never failed. But this time I failed. Now that we are parting company, please tell me where you had hidden your money and valuables. If I don't know your secret, I may not be able to sleep," he said. Raman smiled and said, "I

knew you were a thief the moment I saw you. I took care to hide the money where you would never find it.”

“But where? I looked for it everywhere,” cried out the thief.

“Did you look for it under your pillow?” asked Raman.

“I looked for it under your pillow and found nothing. Why should I look for your money under my pillow?” asked the puzzled thief. “That’s because I hid the money under your pillow,” said Raman, “I was confident that it was the one place you would never look for my money and valuables.”

Sub questions

Question Number : 76 Question Id : 97675521497 Question Type : MCQ Option Shuffling : Yes Is Question Mandatory : No Option Orientation : Vertical

Correct Marks : 1 Wrong Marks : 0.25

The young man joined Raman on his journey by saying that:

Options :

- ✘ he could be Raman’s guide to the holy city.
- ✘ he wanted to be his pupil
- ✔ he may be robbed by thieves .
- ✘ he had great respect for his intelligence.

Question Number : 77 Question Id : 97675521498 Question Type : MCQ Option Shuffling : Yes Is Question Mandatory : No Option Orientation : Vertical

Correct Marks : 1 Wrong Marks : 0.25

According to the passage, the young man’s actual reason for wanting to travel with Raman was that:

Options :

- ✘ he was afraid of travelling alone.
- ✔ he wanted to rob him.
- ✘ he did not know the way.
- ✘ he was his friend.

Question Number : 78 Question Id : 97675521499 Question Type : MCQ Option Shuffling : Yes Is Question Mandatory : No Option Orientation : Vertical

Correct Marks : 1 Wrong Marks : 0.25

According to the passage, the young man was disappointed both the times because:

Options :

- ✔ he could not find Raman’s money and valuables.

2. ✘ Raman did not fall asleep .
3. ✘ he realized that Raman was a poor man.
4. ✘ he only found copper coins in Raman's pocket.

Question Number : 79 Question Id : 97675521500 Question Type : MCQ Option Shuffling : Yes Is Question Mandatory : No Option Orientation : Vertical

Correct Marks : 1 Wrong Marks : 0.25

The young man confessed that he was a thief because:

Options :

1. ✘ he was caught while stealing the money.
2. ✘ he realized that Raman was a good man.
3. ✘ it was the last time that he would be meeting Raman
4. ✔ it was the first time that he had failed to rob a man.

Question Number : 80 Question Id : 97675521501 Question Type : MCQ Option Shuffling : Yes Is Question Mandatory : No Option Orientation : Vertical

Correct Marks : 1 Wrong Marks : 0.25

Raman hid his money under the young man's pillow because:

Options :

1. ✘ the pillow was big enough to hold the money and valuables.
2. ✔ he knew that the robber would not think of looking there.
3. ✘ it was too heavy to be kept inside his pocket.
4. ✘ he did not have a pillow of his own.

General Hindi

Group Number :	5
Group Id :	976755746
Group Maximum Duration :	0
Group Minimum Duration :	0
Show Attended Group? :	No
Edit Attended Group? :	No

Break time :	0
Group Marks :	20
Is this Group for Examiner? :	No

General Hindi

Section Id :	9767551176
Section Number :	1
Section type :	Online
Mandatory or Optional :	Mandatory
Number of Questions :	16
Number of Questions to be attempted :	16
Section Marks :	20
Enable Mark as Answered Mark for Review and Clear Response :	Yes
Sub-Section Number :	1
Sub-Section Id :	9767551368
Question Shuffling Allowed :	Yes

Question Number : 81 Question Id : 97675521502 Question Type : MCQ Option Shuffling : Yes Is Question Mandatory : No Option Orientation : Vertical

Correct Marks : 1 Wrong Marks : 0.25

निम्नलिखित में से कौन सा विकल्प 'जल' का पर्यायवाची है?

Options :

- ✘ अम्बक
- ✘ अमिय
- ✔ पय
- ✘ हय

Question Number : 81 Question Id : 97675521502 Question Type : MCQ Option Shuffling : Yes Is Question Mandatory : No Option Orientation : Vertical

Correct Marks : 1 Wrong Marks : 0.25

निम्नलिखित में से कौन सा विकल्प 'जल' का पर्यायवाची है?

Options :

1. ✘ अम्बक
2. ✘ अमिय
3. ✔ पय
4. ✘ हय

Question Number : 82 Question Id : 97675521503 Question Type : MCQ Option Shuffling : Yes Is Question Mandatory : No Option Orientation : Vertical

Correct Marks : 1 Wrong Marks : 0.25

निम्नलिखित में से कौन सा विकल्प 'आँख' का पर्यायवाची नहीं है?

Options :

1. ✔ कनक
2. ✘ दृग
3. ✘ चक्षु
4. ✘ लोचन

Question Number : 82 Question Id : 97675521503 Question Type : MCQ Option Shuffling : Yes Is Question Mandatory : No Option Orientation : Vertical

Correct Marks : 1 Wrong Marks : 0.25

निम्नलिखित में से कौन सा विकल्प 'आँख' का पर्यायवाची नहीं है?

Options :

1. ✔ कनक
2. ✘ दृग
3. ✘ चक्षु
4. ✘ लोचन

Question Number : 83 Question Id : 97675521504 Question Type : MCQ Option Shuffling : Yes Is Question Mandatory : No Option Orientation : Vertical

Correct Marks : 1 Wrong Marks : 0.25

'धोखा देना' अर्थ के लिए उपयुक्त मुहावरा कौन सा है?

Options :

1. ✓ चूना लगाना
2. ✗ घास काटना
3. ✗ गोटी बैठाना
4. ✗ गले मढ़ना

Question Number : 83 Question Id : 97675521504 Question Type : MCQ Option Shuffling : Yes Is Question Mandatory : No Option Orientation : Vertical

Correct Marks : 1 Wrong Marks : 0.25

‘धोखा देना’ अर्थ के लिए उपयुक्त मुहावरा कौन सा है?

Options :

1. ✓ चूना लगाना
2. ✗ घास काटना
3. ✗ गोटी बैठाना
4. ✗ गले मढ़ना

Question Number : 84 Question Id : 97675521505 Question Type : MCQ Option Shuffling : Yes Is Question Mandatory : No Option Orientation : Vertical

Correct Marks : 1 Wrong Marks : 0.25

‘बेमेल चीजों का मिश्रण’ अर्थ के लिए उपयुक्त लोकोक्ति कौन सी है?

Options :

1. ✗ आँख एक नहीं कजरौटा दस-दस
2. ✗ थोथा चना बाजे घना
3. ✗ अंधे के हाथ बटेर
4. ✓ आधा तीतर आधा बटेर

Question Number : 84 Question Id : 97675521505 Question Type : MCQ Option Shuffling : Yes Is Question Mandatory : No Option Orientation : Vertical

Correct Marks : 1 Wrong Marks : 0.25

‘बेमेल चीजों का मिश्रण’ अर्थ के लिए उपयुक्त लोकोक्ति कौन सी है?

Options :

1. ✗ आँख एक नहीं कजरौटा दस-दस

2. ✘ थोथा चना बाजे घना
3. ✘ अंधे के हाथ बटेर
4. ✔ आधा तीतर आधा बटेर

Question Number : 85 Question Id : 97675521506 Question Type : MCQ Option Shuffling : Yes Is Question Mandatory : No Option Orientation : Vertical

Correct Marks : 1 Wrong Marks : 0.25

अधिकांश लोगों का ऐसा मानना है।

वाक्य के रेखांकित अंश को किस शब्द से प्रतिस्थापित किया जा सकता है?

Options :

1. ✘ अधिक
2. ✔ अधिकतर
3. ✘ अधिकतम
4. ✘ सर्वाधिक

Question Number : 85 Question Id : 97675521506 Question Type : MCQ Option Shuffling : Yes Is Question Mandatory : No Option Orientation : Vertical

Correct Marks : 1 Wrong Marks : 0.25

अधिकांश लोगों का ऐसा मानना है।

वाक्य के रेखांकित अंश को किस शब्द से प्रतिस्थापित किया जा सकता है?

Options :

1. ✘ अधिक
2. ✔ अधिकतर
3. ✘ अधिकतम
4. ✘ सर्वाधिक

Question Number : 86 Question Id : 97675521507 Question Type : MCQ Option Shuffling : Yes Is Question Mandatory : No Option Orientation : Vertical

Correct Marks : 1 Wrong Marks : 0.25

‘भानु + उदय’ का सही संधि रूप क्या है?

Options :

1. ✘ भानुदय
2. ✔ भानूदय
3. ✘ भानोदय
4. ✘ भान्योदय

Question Number : 86 Question Id : 97675521507 Question Type : MCQ Option Shuffling : Yes Is Question Mandatory : No Option Orientation : Vertical

Correct Marks : 1 Wrong Marks : 0.25

‘भानु + उदय’ का सही संधि रूप क्या है?

Options :

1. ✘ भानुदय
2. ✔ भानूदय
3. ✘ भानोदय
4. ✘ भान्योदय

Question Number : 87 Question Id : 97675521508 Question Type : MCQ Option Shuffling : Yes Is Question Mandatory : No Option Orientation : Vertical

Correct Marks : 1 Wrong Marks : 0.25

‘शयन’ का सही संधि-विच्छेद क्या है?

Options :

1. ✔ शे + अन
2. ✘ शै + अन
3. ✘ शो + अन
4. ✘ शौ + अन

Question Number : 87 Question Id : 97675521508 Question Type : MCQ Option Shuffling : Yes Is Question Mandatory : No Option Orientation : Vertical

Correct Marks : 1 Wrong Marks : 0.25

‘शयन’ का सही संधि-विच्छेद क्या है?

Options :

1. ✓ शे + अन
2. ✗ शै + अन
3. ✗ शो + अन
4. ✗ शौ + अन

Question Number : 88 Question Id : 97675521509 Question Type : MCQ Option Shuffling : Yes Is Question Mandatory : No Option Orientation : Vertical

Correct Marks : 1 Wrong Marks : 0.25

‘दुः + तर’ का सही संधि रूप क्या है?

Options :

1. ✗ दुप्तर
2. ✓ दुस्तर
3. ✗ दुश्तर
4. ✗ दुर्तर

Question Number : 88 Question Id : 97675521509 Question Type : MCQ Option Shuffling : Yes Is Question Mandatory : No Option Orientation : Vertical

Correct Marks : 1 Wrong Marks : 0.25

‘दुः + तर’ का सही संधि रूप क्या है?

Options :

1. ✗ दुप्तर
2. ✓ दुस्तर
3. ✗ दुश्तर
4. ✗ दुर्तर

Question Number : 89 Question Id : 97675521510 Question Type : MCQ Option Shuffling : Yes Is Question Mandatory : No Option Orientation : Vertical

Correct Marks : 1 Wrong Marks : 0.25

निम्नलिखित में से कौन सा शब्द ‘जातिवाचक’ संज्ञा है?

Options :

1. ✗ पंजाब

2. ✘ गोदावरी
3. ✔ घर
4. ✘ चाल

Question Number : 89 Question Id : 97675521510 Question Type : MCQ Option Shuffling : Yes Is Question Mandatory : No Option Orientation : Vertical

Correct Marks : 1 Wrong Marks : 0.25

निम्नलिखित में से कौन सा शब्द 'जातिवाचक' संज्ञा है?

Options :

1. ✘ पंजाब
2. ✘ गोदावरी
3. ✔ घर
4. ✘ चाल

Question Number : 90 Question Id : 97675521511 Question Type : MCQ Option Shuffling : Yes Is Question Mandatory : No Option Orientation : Vertical

Correct Marks : 1 Wrong Marks : 0.25

'कुछ' किस प्रकार का सर्वनाम है?

Options :

1. ✘ प्रश्नवाचक
2. ✘ संबंधवाचक
3. ✘ निश्चयवाचक
4. ✔ अनिश्चयवाचक

Question Number : 90 Question Id : 97675521511 Question Type : MCQ Option Shuffling : Yes Is Question Mandatory : No Option Orientation : Vertical

Correct Marks : 1 Wrong Marks : 0.25

'कुछ' किस प्रकार का सर्वनाम है?

Options :

1. ✘ प्रश्नवाचक
2. ✘ संबंधवाचक

3. ✘ निश्चयवाचक
4. ✔ अनिश्चयवाचक

Question Number : 91 Question Id : 97675521512 Question Type : MCQ Option Shuffling : Yes Is Question Mandatory : No Option Orientation : Vertical

Correct Marks : 1 Wrong Marks : 0.25

‘फीका’ किस प्रकार का विशेषण है?

Options :

1. ✘ सार्वनामिक
2. ✔ गुणवाचक
3. ✘ संख्यावाचक
4. ✘ परिमाणबोधक

Question Number : 91 Question Id : 97675521512 Question Type : MCQ Option Shuffling : Yes Is Question Mandatory : No Option Orientation : Vertical

Correct Marks : 1 Wrong Marks : 0.25

‘फीका’ किस प्रकार का विशेषण है?

Options :

1. ✘ सार्वनामिक
2. ✔ गुणवाचक
3. ✘ संख्यावाचक
4. ✘ परिमाणबोधक

Question Number : 92 Question Id : 97675521513 Question Type : MCQ Option Shuffling : Yes Is Question Mandatory : No Option Orientation : Vertical

Correct Marks : 1 Wrong Marks : 0.25

उत्पन्न भावों को बाहर प्रकाशित करने वाले कार्य क्या कहलाते हैं?

Options :

1. ✘ संचारी भाव
2. ✘ विभाव
3. ✘ स्थायी भाव

4. ✓ अनुभाव

Question Number : 92 Question Id : 97675521513 Question Type : MCQ Option Shuffling : Yes Is Question Mandatory : No Option Orientation : Vertical

Correct Marks : 1 Wrong Marks : 0.25

उत्पन्न भावों को बाहर प्रकाशित करने वाले कार्य क्या कहलाते हैं?

Options :

1. ✗ संचारी भाव
2. ✗ विभाव
3. ✗ स्थायी भाव
4. ✓ अनुभाव

Question Number : 93 Question Id : 97675521514 Question Type : MCQ Option Shuffling : Yes Is Question Mandatory : No Option Orientation : Vertical

Correct Marks : 1 Wrong Marks : 0.25

‘सदा प्रसन्न रहो।’ वाक्य में क्रिया की कौन सी वृत्ति है?

Options :

1. ✗ आज्ञापूरक
2. ✗ संकेतसूचक
3. ✗ निश्चयसूचक
4. ✓ इच्छासूचक

Question Number : 93 Question Id : 97675521514 Question Type : MCQ Option Shuffling : Yes Is Question Mandatory : No Option Orientation : Vertical

Correct Marks : 1 Wrong Marks : 0.25

‘सदा प्रसन्न रहो।’ वाक्य में क्रिया की कौन सी वृत्ति है?

Options :

1. ✗ आज्ञापूरक
2. ✗ संकेतसूचक
3. ✗ निश्चयसूचक
4. ✓ इच्छासूचक

Question Number : 94 Question Id : 97675521515 Question Type : MCQ Option Shuffling : Yes Is Question Mandatory : No Option Orientation : Vertical

Correct Marks : 1 Wrong Marks : 0.25

‘योगीराज श्रीकृष्ण ने अर्जुन को कर्मफल पर उपदेश दिया।’ वाक्य के किस अंश में त्रुटि है?

Options :

1. ✓ योगीराज श्रीकृष्ण ने
2. ✗ अर्जुन को
3. ✗ कर्मफल पर
4. ✗ उपदेश दिया।

Question Number : 94 Question Id : 97675521515 Question Type : MCQ Option Shuffling : Yes Is Question Mandatory : No Option Orientation : Vertical

Correct Marks : 1 Wrong Marks : 0.25

‘योगीराज श्रीकृष्ण ने अर्जुन को कर्मफल पर उपदेश दिया।’ वाक्य के किस अंश में त्रुटि है?

Options :

1. ✓ योगीराज श्रीकृष्ण ने
2. ✗ अर्जुन को
3. ✗ कर्मफल पर
4. ✗ उपदेश दिया।

Question Number : 95 Question Id : 97675521516 Question Type : MCQ Option Shuffling : Yes Is Question Mandatory : No Option Orientation : Vertical

Correct Marks : 1 Wrong Marks : 0.25

‘तुम्हारे से यह काम नहीं हो सकता।’ वाक्य के किस भाग में त्रुटि है?

Options :

1. ✓ तुम्हारे से
2. ✗ यह काम
3. ✗ नहीं
4. ✗ हो सकता।

Question Number : 95 Question Id : 97675521516 Question Type : MCQ Option Shuffling : Yes Is Question Mandatory : No Option Orientation : Vertical

Correct Marks : 1 Wrong Marks : 0.25

‘तुम्हारे से यह काम नहीं हो सकता।’ वाक्य के किस भाग में त्रुटि है?

Options :

1. ✓ तुम्हारे से
2. ✗ यह काम
3. ✗ नहीं
4. ✗ हो सकता।

Sub-Section Number :

2

Sub-Section Id :

9767551369

Question Shuffling Allowed :

Yes

Question Id : 97675521517 Question Type : COMPREHENSION Sub Question Shuffling Allowed : Yes Group Comprehension Questions : No

Question Numbers : (96 to 100)

गद्यांश को ध्यानपूर्वक पढ़ें और दिए गए प्रश्नों का सही उत्तर दें।

सच्चा भेद पूर्व और पश्चिम का नहीं, सूक्ष्म और स्थूल मनुष्य का है, आधिभौतिक और आध्यात्मिक मानव का है, चिंतनशील (रेफ्लेक्टिव) और कार्यकारी (एग्जीक्यूटिव) व्यक्तित्व का है। एशिया और यूरोप दोनों दुःखी हैं, दोनों विषण्ण हैं। यह ठीक है कि यूरोप का स्थूल मनुष्य समृद्धियों की गोद में बड़े ही उत्साह से जी रहा है, किंतु वहाँ जो सूक्ष्म मनुष्य है वह उतने उत्साह में नहीं है। वह स्थूल मनुष्य के भीतर सूक्ष्मता जगाना चाहता है, किंतु अत्यंत अल्पमत में होने के कारण उसकी बात लोग ठीक से नहीं सुन पाते। उचित है कि सूक्ष्म मानवता के भारतीय और एशियाई उपासक अपनी आवाजों को तेज करें जिससे यूरोप और अमेरिका में उनके सहधर्मियों को बल पहुंचे तथा सूक्ष्म और स्थूल मनुष्य के बीच जो द्वंद्व चल रहा है उसमें सूक्ष्मता का पक्ष दबा नहीं रह जाय।

Sub questions

Question Number : 96 Question Id : 97675521518 Question Type : MCQ Option Shuffling : Yes Is Question Mandatory : No Option Orientation : Vertical

Correct Marks : 1 Wrong Marks : 0.25

सच्चा भेद किसका है?

Options :

1. ✗ पूर्व और पश्चिम का
2. ✗ उत्तर और दक्षिण का
3. ✗ एशिया और यूरोप का

4. ✓ सूक्ष्म और स्थूल मनुष्य का

Question Number : 97 Question Id : 97675521519 Question Type : MCQ Option Shuffling : Yes Is Question Mandatory : No Option Orientation : Vertical

Correct Marks : 1 Wrong Marks : 0.25

गद्यांश का उपयुक्त शीर्षक क्या होगा?

Options :

1. ✗ सच्ची सभ्यता
2. ✗ सच्ची संस्कृति
3. ✓ सच्ची प्रगति
4. ✗ सच्ची मानवता

Question Number : 98 Question Id : 97675521520 Question Type : MCQ Option Shuffling : Yes Is Question Mandatory : No Option Orientation : Vertical

Correct Marks : 1 Wrong Marks : 0.25

गद्यांश का केंद्रीय भाव क्या है?

Options :

1. ✗ पश्चिमी सभ्यता का समर्थन
2. ✗ पूर्वी सभ्यता का समर्थन
3. ✗ पश्चिमी सभ्यता के प्रति घृणा
4. ✓ पश्चिमी और पूर्वी सभ्यता के बीच सामंजस्य

Question Number : 99 Question Id : 97675521521 Question Type : MCQ Option Shuffling : Yes Is Question Mandatory : No Option Orientation : Vertical

Correct Marks : 1 Wrong Marks : 0.25

‘विषण्ण’ का क्या अर्थ है?

Options :

1. ✗ विपन्न
2. ✓ उदास
3. ✗ भूखा
4. ✗ हताश

Question Number : 100 Question Id : 97675521522 Question Type : MCQ Option Shuffling : Yes Is Question Mandatory : No Option Orientation : Vertical

Correct Marks : 1 Wrong Marks : 0.25

‘स्थूल मनुष्य’ का संबंध किससे है?

Options :

1. ✓ भौतिक विकास से
2. ✗ आध्यात्मिक विकास से
3. ✗ मानसिक विकास से
4. ✗ भावात्मक विकास से

Question Id : 97675521517 Question Type : COMPREHENSION Sub Question Shuffling Allowed : Yes Group Comprehension Questions : No

Question Numbers : (96 to 100)

गद्यांश को ध्यानपूर्वक पढ़ें और दिए गए प्रश्नों का सही उत्तर दें।

सच्चा भेद पूर्व और पश्चिम का नहीं, सूक्ष्म और स्थूल मनुष्य का है, आधिभौतिक और आध्यात्मिक मानव का है, चिंतनशील (रेफ्लेक्टिव) और कार्यकारी (एग्जीक्यूटिव) व्यक्तित्व का है। एशिया और यूरोप दोनों दुःखी हैं, दोनों विषण्ण हैं। यह ठीक है कि यूरोप का स्थूल मनुष्य समृद्धियों की गोद में बड़े ही उत्साह से जी रहा है, किंतु वहाँ जो सूक्ष्म मनुष्य है वह उतने उत्साह में नहीं है। वह स्थूल मनुष्य के भीतर सूक्ष्मता जगाना चाहता है, किंतु अत्यंत अल्पमत में होने के कारण उसकी बात लोग ठीक से नहीं सुन पाते। उचित है कि सूक्ष्म मानवता के भारतीय और एशियाई उपासक अपनी आवाजों को तेज करें जिससे यूरोप और अमेरिका में उनके सहधर्मियों को बल पहुंचे तथा सूक्ष्म और स्थूल मनुष्य के बीच जो द्वंद्व चल रहा है उसमें सूक्ष्मता का पक्ष दबा नहीं रह जाय।

Sub questions

Question Number : 96 Question Id : 97675521518 Question Type : MCQ Option Shuffling : Yes Is Question Mandatory : No Option Orientation : Vertical

Correct Marks : 1 Wrong Marks : 0.25

सच्चा भेद किसका है?

Options :

1. ✗ पूर्व और पश्चिम का
2. ✗ उत्तर और दक्षिण का
3. ✗ एशिया और यूरोप का
4. ✓ सूक्ष्म और स्थूल मनुष्य का

Question Number : 97 Question Id : 97675521519 Question Type : MCQ Option Shuffling : Yes Is Question Mandatory : No Option Orientation : Vertical

Correct Marks : 1 Wrong Marks : 0.25

गद्यांश का उपयुक्त शीर्षक क्या होगा?

Options :

1. ✘ सच्ची सभ्यता
2. ✘ सच्ची संस्कृति
3. ✔ सच्ची प्रगति
4. ✘ सच्ची मानवता

Question Number : 98 Question Id : 97675521520 Question Type : MCQ Option Shuffling : Yes Is Question Mandatory : No Option Orientation : Vertical

Correct Marks : 1 Wrong Marks : 0.25

गद्यांश का केंद्रीय भाव क्या है?

Options :

1. ✘ पश्चिमी सभ्यता का समर्थन
2. ✘ पूर्वी सभ्यता का समर्थन
3. ✘ पश्चिमी सभ्यता के प्रति घृणा
4. ✔ पश्चिमी और पूर्वी सभ्यता के बीच सामंजस्य

Question Number : 99 Question Id : 97675521521 Question Type : MCQ Option Shuffling : Yes Is Question Mandatory : No Option Orientation : Vertical

Correct Marks : 1 Wrong Marks : 0.25

‘विषण्ण’ का क्या अर्थ है?

Options :

1. ✘ विपन्न
2. ✔ उदास
3. ✘ भूखा
4. ✘ हताश

Question Number : 100 Question Id : 97675521522 Question Type : MCQ Option Shuffling : Yes Is Question Mandatory : No Option Orientation : Vertical

Correct Marks : 1 Wrong Marks : 0.25

‘स्थूल मनुष्य’ का संबंध किससे है?

Options :

1. ✓ भौतिक विकास से
2. ✗ आध्यात्मिक विकास से
3. ✗ मानसिक विकास से
4. ✗ भावात्मक विकास से

Discipline1

Group Number :	6
Group Id :	976755747
Group Maximum Duration :	0
Group Minimum Duration :	0
Show Attended Group? :	No
Edit Attended Group? :	No
Break time :	0
Group Marks :	20
Is this Group for Examiner? :	No

Discipline1

Section Id :	9767551177
Section Number :	1
Section type :	Online
Mandatory or Optional :	Mandatory
Number of Questions :	20
Number of Questions to be attempted :	20
Section Marks :	20
Enable Mark as Answered Mark for Review and Clear Response :	Yes
Sub-Section Number :	1
Sub-Section Id :	9767551370

Question Shuffling Allowed :

Yes

Question Number : 101 Question Id : 97675521523 Question Type : MCQ Option Shuffling : Yes Is Question Mandatory : No Option Orientation : Vertical

Correct Marks : 1 Wrong Marks : 0.25

The loss or impairment of the normal clotting of bloods that a minor would may result in fatal bleeding is known as:

Options :

1. ✓ Hemophilia
2. ✗ Thalassemia
3. ✗ Sickle cell disease
4. ✗ Parkinson's disease

Question Number : 101 Question Id : 97675521523 Question Type : MCQ Option Shuffling : Yes Is Question Mandatory : No Option Orientation : Vertical

Correct Marks : 1 Wrong Marks : 0.25

रक्त के थक्के बनने की सामान्य क्षमता में हानि या क्षति जिसके परिणामस्वरूप छोटे से घाव में भी घातक रक्तस्राव हो सकता है, को _____ के रूप में जाना जाता है।

Options :

1. ✓ हीमोफीलिया
2. ✗ थैलेसीमिया
3. ✗ सिकल सेल रोग
4. ✗ पार्किन्सन रोग

Question Number : 102 Question Id : 97675521524 Question Type : MCQ Option Shuffling : Yes Is Question Mandatory : No Option Orientation : Vertical

Correct Marks : 1 Wrong Marks : 0.25

Who can only learn selfcare socialization and oral communication skills?

Options :

1. ✗ Educable mentally challenged
2. ✓ Trainable mentally challenged
3. ✗ Custodial mentally challenged
4. ✗ All of the given options

Question Number : 102 Question Id : 97675521524 Question Type : MCQ Option Shuffling : Yes Is Question Mandatory : No Option Orientation : Vertical

Correct Marks : 1 Wrong Marks : 0.25

निम्न में से कौन केवल स्व-देखभाल समाजीकरण और मौखिक संचार कौशल सीख सकता है?

Options :

1. ✘ औपचारिक शिक्षा के योग्य मानसिक रूप से विकलांग बच्चे
2. ✔ प्रशिक्षणयोग्य मानसिक रूप से विकलांग बच्चे
3. ✘ अभिरक्षण योग्य मानसिक रूप से विकलांग बच्चे
4. ✘ दिए गए सभी विकल्प

Question Number : 103 Question Id : 97675521525 Question Type : MCQ Option Shuffling : Yes Is Question Mandatory : No Option Orientation : Vertical

Correct Marks : 1 Wrong Marks : 0.25

Which type of children have tendency to develop fear associated with personal and school problems?

Options :

1. ✘ Visually impaired
2. ✔ Emotionally disturbed
3. ✘ Hearing impaired
4. ✘ Mentally challenged

Question Number : 103 Question Id : 97675521525 Question Type : MCQ Option Shuffling : Yes Is Question Mandatory : No Option Orientation : Vertical

Correct Marks : 1 Wrong Marks : 0.25

किस प्रकार के बच्चों में व्यक्तिगत और विद्यालयी समस्याओं से संबंधित भय विकसित करने की प्रवृत्ति होती है?

Options :

1. ✘ दृष्टिबाधित
2. ✔ भावनात्मक रूप से परेशान
3. ✘ कर्ण बधिर
4. ✘ मानसिक रूप से विकलांग

Question Number : 104 Question Id : 97675521526 Question Type : MCQ Option Shuffling : Yes Is Question Mandatory : No Option Orientation : Vertical

Correct Marks : 1 Wrong Marks : 0.25

If we give auditory training to the children, then it will be beneficial for which type of children?

Options :

1. ✘ Hard of hearing
2. ✘ Deaf
3. ✘ Emotionally disturbed
4. ✔ Both Hard of hearing and Deaf

Question Number : 104 Question Id : 97675521526 Question Type : MCQ Option Shuffling : Yes Is Question Mandatory : No Option Orientation : Vertical

Correct Marks : 1 Wrong Marks : 0.25

यदि हम बच्चों को श्रवण प्रशिक्षण दें तो यह किस प्रकार के बच्चों के लिए लाभप्रद होगा?

Options :

1. ✘ सुनने में समस्या वाले बच्चों के लिए
2. ✘ बहरे बच्चों के लिए
3. ✘ भावनात्मक रूप से परेशान बच्चों के लिए
4. ✔ सुनने में समस्या वाले बच्चों के लिए और बहरे बच्चों के लिए, दोनों

Question Number : 105 Question Id : 97675521527 Question Type : MCQ Option Shuffling : Yes Is Question Mandatory : No Option Orientation : Vertical

Correct Marks : 1 Wrong Marks : 0.25

Which degree of hearing loss known as severe hearing loss?

Options :

1. ✘ 20-30 dB
2. ✘ 45-60 dB
3. ✘ 40-55 dB
4. ✔ 60-75 dB

Question Number : 105 Question Id : 97675521527 Question Type : MCQ Option Shuffling : Yes Is Question Mandatory : No Option Orientation : Vertical

Correct Marks : 1 Wrong Marks : 0.25

श्रवण हानि की किस कोटि को गंभीर श्रवण हानि के रूप में जाना जाता है?

Options :

- ✘ 20-30 dB
- ✘ 45-60 dB
- ✘ 40-55 dB
- ✔ 60-75 dB

Question Number : 106 Question Id : 97675521528 Question Type : MCQ Option Shuffling : Yes Is Question Mandatory : No Option Orientation : Vertical

Correct Marks : 1 Wrong Marks : 0.25

Which of the following is NOT caused due to neurological conditions?

Options :

- ✘ Multiple sclerosis
- ✘ Parkinson's disease
- ✔ Thalassemia
- ✘ Cerebral Palsy

Question Number : 106 Question Id : 97675521528 Question Type : MCQ Option Shuffling : Yes Is Question Mandatory : No Option Orientation : Vertical

Correct Marks : 1 Wrong Marks : 0.25

निम्नलिखित में से कौन सा रोग, न्यूरोलॉजिकल परिस्थितियों के कारण नहीं होता है?

Options :

- ✘ मल्टीपल स्क्लेरोसिस (Multiple sclerosis)
- ✘ पार्किन्सन रोग (Parkinson's disease)
- ✔ थैलेसीमिया (Thalassemia)
- ✘ प्रमस्तिष्क घात (Cerebral Palsy)

Question Number : 107 Question Id : 97675521529 Question Type : MCQ Option Shuffling : Yes Is Question Mandatory : No Option Orientation : Vertical

Correct Marks : 1 Wrong Marks : 0.25

Abnormal comprehension or production of symbols, grammatical structure and words are the characteristic features of-

Options :

1. ✘ Visually impaired
2. ✔ Language disorder
3. ✘ Physically challenged
4. ✘ Mentally challenged

Question Number : 107 Question Id : 97675521529 Question Type : MCQ Option Shuffling : Yes Is Question Mandatory : No Option Orientation : Vertical

Correct Marks : 1 Wrong Marks : 0.25

ऐसे बच्चे जिन्हें प्रतीकों, व्याकरणिक संरचना और शब्दों को लिखने और समझने में समस्या होती है, _____ होते हैं।

Options :

1. ✘ नेत्रहीन
2. ✔ भाषा विकार से ग्रस्त
3. ✘ शारीरिक रूप से विकलांग
4. ✘ मानसिक रूप से विकलांग

Question Number : 108 Question Id : 97675521530 Question Type : MCQ Option Shuffling : Yes Is Question Mandatory : No Option Orientation : Vertical

Correct Marks : 1 Wrong Marks : 0.25

When the inner ear is damaged, which type of hearing loss occurs?

Options :

1. ✘ Conductive Hearing loss
2. ✔ Sensory-Neural Hearing loss
3. ✘ Mixed Hearing loss
4. ✘ Pseudo Hearing loss

Question Number : 108 Question Id : 97675521530 Question Type : MCQ Option Shuffling : Yes Is Question Mandatory : No Option Orientation : Vertical

Correct Marks : 1 Wrong Marks : 0.25

जब आंतरिक कान क्षतिग्रस्त हो जाता है, तो किस प्रकार की श्रवण हानि होती है?

Options :

- ✘ चालकीय श्रवण हानि
- ✔ संवेदी-तंत्रिका श्रवण हानि
- ✘ मिश्रित श्रवण हानि
- ✘ छद्म श्रवण हानि

Question Number : 109 Question Id : 97675521531 Question Type : MCQ Option Shuffling : Yes Is Question Mandatory : No Option Orientation : Vertical

Correct Marks : 1 Wrong Marks : 0.25

A group of non-progressive neurological condition affecting body movements and muscle coordination caused by damage to one more specific areas of the brain is known as:

Options :

- ✘ Autism
- ✘ Thalassemia
- ✘ Sickle cell disease
- ✔ Cerebral Palsy

Question Number : 109 Question Id : 97675521531 Question Type : MCQ Option Shuffling : Yes Is Question Mandatory : No Option Orientation : Vertical

Correct Marks : 1 Wrong Marks : 0.25

मस्तिष्क के एक या अधिक विशिष्ट क्षेत्रों के क्षति के कारण शरीर के संचलन और मांसपेशियों के समन्वय को प्रभावित करने वाली तंत्रिका संबंधी वह स्थिति जिसमें विकारग्रस्त व्यक्ति के उस हिस्से का विकास रुक जाता है, के समूह को किस रूप में जाना जाता है?

Options :

- ✘ स्वलीनता
- ✘ थैलेसीमिया
- ✘ सिकल सेल रोग
- ✔ प्रमस्तिष्क घात

Question Number : 110 Question Id : 97675521532 Question Type : MCQ Option Shuffling : Yes Is Question Mandatory : No Option Orientation : Vertical

Correct Marks : 1 Wrong Marks : 0.25

Abnormalities of body structure and appearance from any cause at organ level is known as:

Options :

1. ✓ Impairment
2. ✗ Handicap
3. ✗ Special needs
4. ✗ Disability

Question Number : 110 Question Id : 97675521532 Question Type : MCQ Option Shuffling : Yes Is Question Mandatory : No Option Orientation : Vertical

Correct Marks : 1 Wrong Marks : 0.25

किसी शारीरिक अंग में विकृति के परिणामस्वरूप शरीर की संरचना और उद्भाव (appearance) की असामान्यताएं _____ के रूप में जानी जाती हैं।

Options :

1. ✓ क्षति
2. ✗ अक्षमता
3. ✗ विशेष जरूरत
4. ✗ अपंगता

Question Number : 111 Question Id : 97675521533 Question Type : MCQ Option Shuffling : Yes Is Question Mandatory : No Option Orientation : Vertical

Correct Marks : 1 Wrong Marks : 0.25

If a colour blind person choose the occupation to drive a railway engine, then the colour blindness will be for him:

Note: For this question, discrepancy is found in question/answer. So, this question is ignored for all candidates.

Options :

1. Impairment
2. Handicap
3. Disability
4. Advantage

Question Number : 111 Question Id : 97675521533 Question Type : MCQ Option Shuffling : Yes Is Question Mandatory : No Option Orientation : Vertical

Correct Marks : 1 Wrong Marks : 0.25

यदि कोई वर्णान्ध व्यक्ति (colour blind person) रेल इंजन चलाने का व्यवसाय चुनता है, तो वर्णान्धता उसके लिए क्या होगी?

Note: For this question, discrepancy is found in question/answer. So, this question is ignored for all candidates.

Options :

1. क्षति
2. अक्षमता
3. अपंगता
4. लाभ

Question Number : 112 Question Id : 97675521534 Question Type : MCQ Option Shuffling : Yes Is Question Mandatory : No Option Orientation : Vertical

Correct Marks : 1 Wrong Marks : 0.25

That consequences of impairment in terms of functional performance and activity by the individual reflects as:

Note: For this question, discrepancy is found in question/answer. So, this question is ignored for all candidates.

Options :

1. Impairment
2. Handicap
3. Disadvantage
4. Disability

Question Number : 112 Question Id : 97675521534 Question Type : MCQ Option Shuffling : Yes Is Question Mandatory : No Option Orientation : Vertical

Correct Marks : 1 Wrong Marks : 0.25

व्यक्ति द्वारा कार्यात्मक प्रदर्शन और क्रियाकलाप के संदर्भ में क्षति के परिणाम _____ के रूप में प्रदर्शित होते हैं।

Note: For this question, discrepancy is found in question/answer. So, this question is ignored for all candidates.

Options :

1. क्षति
2. अक्षमता
3. नुकसान
4. अपंगता

Question Number : 113 Question Id : 97675521535 Question Type : MCQ Option Shuffling : Yes Is Question Mandatory : No Option Orientation : Vertical

Correct Marks : 1 Wrong Marks : 0.25

Underdeveloped language is a characteristic features of:

Options :

1. ✘ Visual Impairment
2. ✘ Hearing Impairment
3. ✘ Speech Impairment
4. ✔ Both Hearing Impairment and Speech Impairment

Question Number : 113 Question Id : 97675521535 Question Type : MCQ Option Shuffling : Yes Is Question Mandatory : No Option Orientation : Vertical

Correct Marks : 1 Wrong Marks : 0.25

अविकसित भाषा किस विकार की अभिलाक्षणिक विशेषता है?

Options :

1. ✘ दृष्टि दोष
2. ✘ श्रवण दोष
3. ✘ वाक् दोष
4. ✔ श्रवण दोष और वाक् दोष, दोनों

Question Number : 114 Question Id : 97675521536 Question Type : MCQ Option Shuffling : Yes Is Question Mandatory : No Option Orientation : Vertical

Correct Marks : 1 Wrong Marks : 0.25

Seguin form board test is used to access competence of the hearing impaired child of age:

Options :

1. ✓ 5 to 15 years
2. ✗ 6 to 12 years
3. ✗ 10 to 20 years
4. ✗ 12 to 18 years

Question Number : 114 Question Id : 97675521536 Question Type : MCQ Option Shuffling : Yes Is Question Mandatory : No Option Orientation : Vertical

Correct Marks : 1 Wrong Marks : 0.25

सेगुइन फॉर्म बोर्ड (Seguin form board) टेस्ट का उपयोग _____ आयु के श्रवण दोष से ग्रसित बच्चे की क्षमता जांचने के लिए किया जाता है।

Options :

1. ✓ 5 से 15 वर्ष
2. ✗ 6 से 12 वर्ष
3. ✗ 10 से 20 वर्ष
4. ✗ 12 से 18 वर्ष

Question Number : 115 Question Id : 97675521537 Question Type : MCQ Option Shuffling : Yes Is Question Mandatory : No Option Orientation : Vertical

Correct Marks : 1 Wrong Marks : 0.25

Who have to develop orientation and mobility skills?

Options :

1. ✗ Hearing impaired
2. ✓ Visually impaired
3. ✗ Mentally challenged
4. ✗ Physically challenged

Question Number : 115 Question Id : 97675521537 Question Type : MCQ Option Shuffling : Yes Is Question Mandatory : No Option Orientation : Vertical

Correct Marks : 1 Wrong Marks : 0.25

अनुस्थितिक एवं चलिष्णुता कौशल किसे विकसित करना होता है?

Options :

1. ✗ श्रवणबाधित

2. ✓ दृष्टिबाधित
3. ✗ मानसिक रूप से विकलांग
4. ✗ शारीरिक रूप से विकलांग

Question Number : 116 Question Id : 97675521538 Question Type : MCQ Option Shuffling : Yes Is Question Mandatory : No Option Orientation : Vertical

Correct Marks : 1 Wrong Marks : 0.25

Which of the following machine translates letter by letter images from the scanner into tactile stimuli?

Options :

1. ✗ Kurzweil Reading machine
2. ✗ Sonic glass machine
3. ✓ Optacon
4. ✗ Laser cane

Question Number : 116 Question Id : 97675521538 Question Type : MCQ Option Shuffling : Yes Is Question Mandatory : No Option Orientation : Vertical

Correct Marks : 1 Wrong Marks : 0.25

निम्नलिखित में से कौन-सी मशीन, स्कैनर से अक्षर दर अक्षर छवियों (इमेज) को स्पर्शिक उत्तेजना में अनुवाद करती है?

Options :

1. ✗ कुर्ज़वील रीडिंग मशीन
2. ✗ सोनिक ग्लास मशीन
3. ✓ ऑप्टाकॉन
4. ✗ लेज़र कैन

Question Number : 117 Question Id : 97675521539 Question Type : MCQ Option Shuffling : Yes Is Question Mandatory : No Option Orientation : Vertical

Correct Marks : 1 Wrong Marks : 0.25

If a child moves his head forward and backward while looking at distant objects, which disability he has?

Options :

1. ✗ Hearing impairment
2. ✗ Autism

3. ✘ Cerebral Palsy
4. ✔ Visual impairment

Question Number : 117 Question Id : 97675521539 Question Type : MCQ Option Shuffling : Yes Is Question Mandatory : No Option Orientation : Vertical

Correct Marks : 1 Wrong Marks : 0.25

यदि कोई बच्चा दूर की वस्तुओं को देखते हुए अपना सिर आगे-पीछे करता है, तो उसे कौन-सी विकलांगता है?

Options :

1. ✘ श्रवण बाधा
2. ✘ स्वलीनता
3. ✘ प्रमस्तिष्क घात
4. ✔ दृष्टि बाधा

Question Number : 118 Question Id : 97675521540 Question Type : MCQ Option Shuffling : Yes Is Question Mandatory : No Option Orientation : Vertical

Correct Marks : 1 Wrong Marks : 0.25

If a hearing impaired child is late identified then it will affect

Options :

1. ✘ Socio-economic status of child
2. ✔ Speech of child
3. ✘ Food habit of child
4. ✘ All of the given option

Question Number : 118 Question Id : 97675521540 Question Type : MCQ Option Shuffling : Yes Is Question Mandatory : No Option Orientation : Vertical

Correct Marks : 1 Wrong Marks : 0.25

यदि श्रवण बाधित बच्चे की पहचान देर से की जाती है तो यह _____ को प्रभावित करेगा।

Options :

1. ✘ बच्चे की सामाजिक-आर्थिक स्थिति
2. ✔ बच्चे के वाक्
3. ✘ बच्चे की खाने की आदत

4. ✘ दिए गए सभी विकल्प

Question Number : 119 Question Id : 97675521541 Question Type : MCQ Option Shuffling : Yes Is Question Mandatory : No Option Orientation : Vertical

Correct Marks : 1 Wrong Marks : 0.25

Early intervention services are used for which of the following?

Options :

1. ✔ Infants and toddlers
2. ✘ Adolescents
3. ✘ Adulthood
4. ✘ Old age person

Question Number : 119 Question Id : 97675521541 Question Type : MCQ Option Shuffling : Yes Is Question Mandatory : No Option Orientation : Vertical

Correct Marks : 1 Wrong Marks : 0.25

निम्नलिखित में से किसके लिए प्रारंभिक अंतःक्षेप सेवाओं का उपयोग किया जाता है?

Options :

1. ✔ शिशु और बच्चे
2. ✘ किशोरों
3. ✘ वयस्क
4. ✘ वृद्ध व्यक्ति

Question Number : 120 Question Id : 97675521542 Question Type : MCQ Option Shuffling : Yes Is Question Mandatory : No Option Orientation : Vertical

Correct Marks : 1 Wrong Marks : 0.25

What is the full form of AYJNISHD

Options :

1. ✘ Ali Yavar Jung National Institute of Special Hearing Divyangjan
2. ✘ Ali Yavar Jung National Institute of Socially Hired Disabled
3. ✘ Ali Yavar Jung National Institute of Speech and Hearing Divyangjan
4. ✔ Ali Yavar Jung National Institute of Speech and Hearing Disabilities

Question Number : 120 Question Id : 97675521542 Question Type : MCQ Option Shuffling : Yes Is Question Mandatory : No Option Orientation : Vertical

Correct Marks : 1 Wrong Marks : 0.25

AYJNISHD का पूर्ण रूप क्या है?

Options :

1. ✘ अली यावर जंग नेशनल इंस्टीट्यूट ऑफ स्पेशल हियरिंग दिव्यांगजन
2. ✘ अली यावर जंग नेशनल इंस्टीट्यूट ऑफ सोशियली हायर्ड डिसेबल्ड
3. ✘ अली यावर जंग नेशनल इंस्टीट्यूट ऑफ स्पीच एंड हियरिंग दिव्यांगजन
4. ✔ अली यावर जंग नेशनल इंस्टीट्यूट ऑफ स्पीच एंड हियरिंग डिसेबिलिटीज़

Discipline2

Group Number :	7
Group Id :	976755748
Group Maximum Duration :	0
Group Minimum Duration :	0
Show Attended Group? :	No
Edit Attended Group? :	No
Break time :	0
Group Marks :	20
Is this Group for Examiner? :	No

Discipline2

Section Id :	9767551178
Section Number :	1
Section type :	Online
Mandatory or Optional :	Mandatory
Number of Questions :	20
Number of Questions to be attempted :	20
Section Marks :	20

Enable Mark as Answered Mark for Review and Clear Response : Yes
Sub-Section Number : 1
Sub-Section Id : 9767551371
Question Shuffling Allowed : Yes

Question Number : 121 Question Id : 97675521543 Question Type : MCQ Option Shuffling : Yes Is Question Mandatory : No Option Orientation : Vertical

Correct Marks : 1 Wrong Marks : 0.25

Where is the National Institute for the Empowerment of Persons with Intellectual disabilities situated?

Options :

1. ✓ Secundrabad
2. ✗ Mumbai
3. ✗ Dehradun
4. ✗ Chennai

Question Number : 121 Question Id : 97675521543 Question Type : MCQ Option Shuffling : Yes Is Question Mandatory : No Option Orientation : Vertical

Correct Marks : 1 Wrong Marks : 0.25

बौद्धिक दिव्यांगता वाले व्यक्तियों के सशक्तीकरण के लिए राष्ट्रीय संस्थान कहाँ स्थित है?

Options :

1. ✓ सिकंदराबाद
2. ✗ मुंबई
3. ✗ देहरादून
4. ✗ चेन्नई

Question Number : 122 Question Id : 97675521544 Question Type : MCQ Option Shuffling : Yes Is Question Mandatory : No Option Orientation : Vertical

Correct Marks : 1 Wrong Marks : 0.25

The special teachers for children with disabilities who goes to 5-10 government primary schools for educating children with disabilities, are known as:

Options :

1. ✗ General Teacher

2. ✓ Itinerant Teacher
3. ✗ Inclusive Teacher
4. ✗ Resource Teacher

Question Number : 122 Question Id : 97675521544 Question Type : MCQ Option Shuffling : Yes Is Question Mandatory : No Option Orientation : Vertical

Correct Marks : 1 Wrong Marks : 0.25

दिव्यांग बच्चों के लिए विशेष शिक्षक जो 5-10 सरकारी प्राथमिक विद्यालयों में दिव्यांग बच्चों को शिक्षित करने के लिए जाते हैं, उन्हें _____ कहा जाता है।

Options :

1. ✗ सामान्य शिक्षक
2. ✓ भ्रमणशील शिक्षक
3. ✗ समावेशी शिक्षक
4. ✗ संपदा शिक्षक

Question Number : 123 Question Id : 97675521545 Question Type : MCQ Option Shuffling : Yes Is Question Mandatory : No Option Orientation : Vertical

Correct Marks : 1 Wrong Marks : 0.25

Systematic efforts for human resource development in disability sector has started of IYDP in:

Options :

1. ✓ 1981
2. ✗ 1971
3. ✗ 1983
4. ✗ 1973

Question Number : 123 Question Id : 97675521545 Question Type : MCQ Option Shuffling : Yes Is Question Mandatory : No Option Orientation : Vertical

Correct Marks : 1 Wrong Marks : 0.25

दिव्यांग क्षेत्र में मानव संसाधन विकास के लिए IYDP के सुव्यवस्थित प्रयास _____ में शुरू हुए।

Options :

1. ✓ 1981
2. ✗ 1971

3. ✘ 1983

4. ✘ 1973

Question Number : 124 Question Id : 97675521546 Question Type : MCQ Option Shuffling : Yes Is Question Mandatory : No Option Orientation : Vertical

Correct Marks : 1 Wrong Marks : 0.25

Which of the following has objective to bring about standardization of training courses for professionals dealing with disabled persons?

Options :

- ✘ National Council of Educational Research and Training
- ✘ All India Institute of Speech and Hearing
- ✔ Rehabilitation Council of India
- ✘ National Council for Teacher Education

Question Number : 124 Question Id : 97675521546 Question Type : MCQ Option Shuffling : Yes Is Question Mandatory : No Option Orientation : Vertical

Correct Marks : 1 Wrong Marks : 0.25

निम्नलिखित में से किसका उद्देश्य दिव्यांग व्यक्तियों को प्रशिक्षित करने वाले पेशेवरों के प्रशिक्षण पाठ्यक्रमों का मानकीकरण करना है?

Options :

- ✘ नेशनल काउंसिल ऑफ़ एज्युकेशनल रिसर्च एंड ट्रेनिंग
- ✘ ऑल इंडिया इंस्टीट्यूट ऑफ़ स्पीच एंड हियरिंग
- ✔ रिहैबिलीटेशन काउंसिल ऑफ़ इंडिया
- ✘ नेशनल काउंसिल फॉर टीचर एजुकेशन

Question Number : 125 Question Id : 97675521547 Question Type : MCQ Option Shuffling : Yes Is Question Mandatory : No Option Orientation : Vertical

Correct Marks : 1 Wrong Marks : 0.25

Who did the experiment on a hungry cat to show the process of solving problems through trial and error?

Options :

- ✔ E.L. Thorndike
- ✘ B.F. Skinner
- ✘ Edwin Guthrie

4. ✖ I.P. Pavlov

Question Number : 125 Question Id : 97675521547 Question Type : MCQ Option Shuffling : Yes Is Question Mandatory : No Option Orientation : Vertical

Correct Marks : 1 Wrong Marks : 0.25

परीक्षण और त्रुटि के माध्यम से समस्याओं को हल करने की प्रक्रिया को दिखाने के लिए भूखी बिल्ली पर प्रयोग किसने किया था?

Options :

1. ✔ ई.एल. थोर्नडाइक
2. ✖ बी.एफ. स्किनर
3. ✖ एडविन गुथरी
4. ✖ आई.पी. पावलोव

Question Number : 126 Question Id : 97675521548 Question Type : MCQ Option Shuffling : Yes Is Question Mandatory : No Option Orientation : Vertical

Correct Marks : 1 Wrong Marks : 0.25

Classical Conditioning theory was proposed by:

Options :

1. ✖ B.F. Skinner
2. ✔ I.P. Pavlov
3. ✖ Kurt Koffka
4. ✖ Wolfgang Kohler

Question Number : 126 Question Id : 97675521548 Question Type : MCQ Option Shuffling : Yes Is Question Mandatory : No Option Orientation : Vertical

Correct Marks : 1 Wrong Marks : 0.25

शास्त्रीय अनुकूलन सिद्धांत _____ के द्वारा प्रस्तावित किया गया था।

Options :

1. ✖ बी.एफ. स्किनर
2. ✔ आई.पी. पावलोव
3. ✖ कर्ट कोफका
4. ✖ वोल्फगैंग कोहलर

Question Number : 127 Question Id : 97675521549 Question Type : MCQ Option Shuffling : Yes Is Question Mandatory : No Option Orientation : Vertical

Correct Marks : 1 Wrong Marks : 0.25

Whom of the following has NOT propounded the cognitive theory?

Options :

1. ✘ Kurt Koffka
2. ✘ Wolfgang Kohler
3. ✔ B.F. Skinner
4. ✘ Max Wertheimer

Question Number : 127 Question Id : 97675521549 Question Type : MCQ Option Shuffling : Yes Is Question Mandatory : No Option Orientation : Vertical

Correct Marks : 1 Wrong Marks : 0.25

निम्नलिखित में से किसने संज्ञानात्मक सिद्धांत प्रतिपादित नहीं किया है?

Options :

1. ✘ कर्ट कोफ्का
2. ✘ वोल्फगैंग कोहलर
3. ✔ बी.एफ. स्किनर
4. ✘ मैक्स वर्थाइमर

Question Number : 128 Question Id : 97675521550 Question Type : MCQ Option Shuffling : Yes Is Question Mandatory : No Option Orientation : Vertical

Correct Marks : 1 Wrong Marks : 0.25

Which theory implies the idea that interaction with society and environment plays a vital role in shaping the behavior, action and abilities of a child?

Options :

1. ✘ Insight theory of learning
2. ✔ Socio-cultural theory
3. ✘ Classical Conditioning theory
4. ✘ Operant- conditioning theory

Question Number : 128 Question Id : 97675521550 Question Type : MCQ Option Shuffling : Yes Is Question Mandatory : No Option Orientation : Vertical

Correct Marks : 1 Wrong Marks : 0.25

किस सिद्धांत का तात्पर्य इस विचार से है कि समाज और पर्यावरण के साथ अंतःक्रिया बच्चे के व्यवहार, क्रिया और क्षमताओं को आकार देने में महत्वपूर्ण भूमिका निभाती है?

Options :

- ✘ अधिगम का अंतर्दृष्टि सिद्धांत
- ✔ सामाजिक-सांस्कृतिक सिद्धांत
- ✘ शास्त्रीय अनुकूलन सिद्धांत
- ✘ क्रियाप्रसूत-अनुकूलन सिद्धांत

Question Number : 129 Question Id : 97675521551 Question Type : MCQ Option Shuffling : Yes Is Question Mandatory : No Option Orientation : Vertical

Correct Marks : 1 Wrong Marks : 0.25

Operant Conditioning theory is also known as:

Options :

- ✘ Stimulus-Response theory
- ✘ Cognitive theory
- ✘ Classical Conditioning theory
- ✔ Theory of Reinforcement

Question Number : 129 Question Id : 97675521551 Question Type : MCQ Option Shuffling : Yes Is Question Mandatory : No Option Orientation : Vertical

Correct Marks : 1 Wrong Marks : 0.25

क्रियाप्रसूत-अनुकूलन सिद्धांत को _____ के रूप में भी जाना जाता है।

Options :

- ✘ उत्तेजना-अनुक्रिया सिद्धांत
- ✘ संज्ञानात्मक सिद्धांत
- ✘ शास्त्रीय अनुकूलन सिद्धांत
- ✔ प्रबलन का सिद्धांत

Question Number : 130 Question Id : 97675521552 Question Type : MCQ Option Shuffling : Yes Is Question Mandatory : No Option Orientation : Vertical

Correct Marks : 1 Wrong Marks : 0.25

According to Piaget the third stage of Cognitive development is:

Options :

1. ✓ Concrete Operational stage
2. ✗ Formal Operational stage
3. ✗ Pre-operational stage
4. ✗ Sensorimotor stage

Question Number : 130 Question Id : 97675521552 Question Type : MCQ Option Shuffling : Yes Is Question Mandatory : No Option Orientation : Vertical

Correct Marks : 1 Wrong Marks : 0.25

पियाजे के अनुसार संज्ञानात्मक विकास का तीसरा चरण कौन सा है?

Options :

1. ✓ मूर्त संक्रियात्मक अवस्था
2. ✗ औपचारिक संक्रियात्मक चरण
3. ✗ पूर्व-संक्रियात्मक चरण
4. ✗ संवेदी चरण

Question Number : 131 Question Id : 97675521553 Question Type : MCQ Option Shuffling : Yes Is Question Mandatory : No Option Orientation : Vertical

Correct Marks : 1 Wrong Marks : 0.25

Children move into which stage after they learn to walk?

Options :

1. ✓ Toddlerhood
2. ✗ Childhood
3. ✗ Adolescence
4. ✗ Adulthood

Question Number : 131 Question Id : 97675521553 Question Type : MCQ Option Shuffling : Yes Is Question Mandatory : No Option Orientation : Vertical

Correct Marks : 1 Wrong Marks : 0.25

चलना सीखने के बाद बच्चे किस चरण में चले जाते हैं?

Options :

1. ✓ नन्हे बच्चे की अवस्था (Toddlerhood)
2. ✗ बचपन (Childhood)
3. ✗ किशोरावस्था (Adolescence)
4. ✗ वयस्कता (Adulthood)

Question Number : 132 Question Id : 97675521554 Question Type : MCQ Option Shuffling : Yes Is Question Mandatory : No Option Orientation : Vertical

Correct Marks : 1 Wrong Marks : 0.25

Which principles of development states that development proceeds from top to bottom?

Options :

1. ✗ Law of prediction
2. ✓ Cephalocaudal law
3. ✗ Proximodistal law
4. ✗ Law of equilibrium

Question Number : 132 Question Id : 97675521554 Question Type : MCQ Option Shuffling : Yes Is Question Mandatory : No Option Orientation : Vertical

Correct Marks : 1 Wrong Marks : 0.25

विकास के कौन-से सिद्धांत दर्शाते हैं कि विकास ऊपर से नीचे की ओर होता है?

Options :

1. ✗ पूर्वानुमान का नियम
2. ✓ सेफ्लोकॉडल नियम
3. ✗ समीपदूराभिमुख नियम
4. ✗ साम्यावस्था का नियम

Question Number : 133 Question Id : 97675521555 Question Type : MCQ Option Shuffling : Yes Is Question Mandatory : No Option Orientation : Vertical

Correct Marks : 1 Wrong Marks : 0.25

At which stage of development baby teeth begin to be replaced by permanent teeth?

Options :

1. ✓ Early childhood
2. ✗ Infancy
3. ✗ Adolescents
4. ✗ Puberty

Question Number : 133 Question Id : 97675521555 Question Type : MCQ Option Shuffling : Yes Is Question Mandatory : No Option Orientation : Vertical

Correct Marks : 1 Wrong Marks : 0.25

विकास के किस चरण में शिशु में दूध के दांत, स्थायी दांतों से प्रतिस्थापित होना शुरू हो जाते हैं?

Options :

1. ✓ आरंभिक बाल्यावस्था
2. ✗ शैशव अवस्था
3. ✗ किशोरावस्था
4. ✗ यौवनारंभ

Question Number : 134 Question Id : 97675521556 Question Type : MCQ Option Shuffling : Yes Is Question Mandatory : No Option Orientation : Vertical

Correct Marks : 1 Wrong Marks : 0.25

At what age of development babbling occurs?

Options :

1. ✓ 2-8 months
2. ✗ 8-12 months
3. ✗ 12-18 months
4. ✗ 15-18 months

Question Number : 134 Question Id : 97675521556 Question Type : MCQ Option Shuffling : Yes Is Question Mandatory : No Option Orientation : Vertical

Correct Marks : 1 Wrong Marks : 0.25

तुतलाना (babbling), विकास की किस आयु में होता है?

Options :

- ✓ 2-8 माह
- ✗ 8-12 माह
- ✗ 12-18 माह
- ✗ 15-18 माह

Question Number : 135 Question Id : 97675521557 Question Type : MCQ Option Shuffling : Yes Is Question Mandatory : No Option Orientation : Vertical

Correct Marks : 1 Wrong Marks : 0.25

In a prone position, babies can hold their head erect at which time?

Options :

- ✗ First week
- ✗ Second week
- ✗ Third week
- ✓ One month

Question Number : 135 Question Id : 97675521557 Question Type : MCQ Option Shuffling : Yes Is Question Mandatory : No Option Orientation : Vertical

Correct Marks : 1 Wrong Marks : 0.25

औंधे मुंह लेटे होने के दौरान, बच्चे किस आयु में अपना सर उठाना शुरू कर देते हैं?

Options :

- ✗ पहले सप्ताह में
- ✗ दूसरे सप्ताह में
- ✗ तीसरे सप्ताह में
- ✓ एक माह में

Question Number : 136 Question Id : 97675521558 Question Type : MCQ Option Shuffling : Yes Is Question Mandatory : No Option Orientation : Vertical

Correct Marks : 1 Wrong Marks : 0.25

Which of the following statement is NOT true related to growth and development?

Options :

- ✗ Growth refers to changes in the particular aspects of the body.

- ✘ Development may be possible without any significant growth.
- ✔ Growth is functional and development is structural.
- ✘ Growth does not continue throughout life.

Question Number : 136 Question Id : 97675521558 Question Type : MCQ Option Shuffling : Yes Is Question Mandatory : No Option Orientation : Vertical

Correct Marks : 1 Wrong Marks : 0.25

वृद्धि और विकास के संबंध में निम्नलिखित में से कौन सा कथन सही नहीं है?

Options :

- ✘ वृद्धि, शरीर के विशेष पहलुओं में होने वाले परिवर्तनों को संदर्भित करती है।
- ✘ विकास बिना किसी महत्वपूर्ण वृद्धि के संभव हो सकता है।
- ✔ वृद्धि कार्यात्मक है और विकास संरचनात्मक है।
- ✘ वृद्धि जीवन भर जारी नहीं रहती है।

Question Number : 137 Question Id : 97675521559 Question Type : MCQ Option Shuffling : Yes Is Question Mandatory : No Option Orientation : Vertical

Correct Marks : 1 Wrong Marks : 0.25

Which of the following statement is NOT correct?

Options :

- ✔ Development implies quantitative changes.
- ✘ Development is a result of maturation and experience.
- ✘ All changes in behaviour are not development.
- ✘ Development means the whole sequence of life from conception to death.

Question Number : 137 Question Id : 97675521559 Question Type : MCQ Option Shuffling : Yes Is Question Mandatory : No Option Orientation : Vertical

Correct Marks : 1 Wrong Marks : 0.25

निम्नलिखित में से कौन सा कथन सही नहीं है?

Options :

- ✔ विकास का तात्पर्य मात्रात्मक परिवर्तन से है।
- ✘ विकास परिपक्वता और अनुभव का परिणाम है।

3. ✘ व्यवहार में सभी परिवर्तन विकास नहीं हैं।
4. ✘ विकास का अर्थ है गर्भधारण से लेकर मृत्यु तक का जीवन का संपूर्ण क्रम।

Question Number : 138 Question Id : 97675521560 Question Type : MCQ Option Shuffling : Yes Is Question Mandatory : No Option Orientation : Vertical

Correct Marks : 1 Wrong Marks : 0.25

The principle of Proximal development is associated with:

Options :

1. ✘ Writing
2. ✘ Personality development
3. ✘ Intelligence
4. ✔ Growth and development

Question Number : 138 Question Id : 97675521560 Question Type : MCQ Option Shuffling : Yes Is Question Mandatory : No Option Orientation : Vertical

Correct Marks : 1 Wrong Marks : 0.25

समीपस्थ विकास (Proximal development) का सिद्धांत _____ से संबंधित है।

Options :

1. ✘ लिखने
2. ✘ व्यक्तित्व विकास
3. ✘ बुद्धिमत्ता
4. ✔ वृद्धि और विकास

Question Number : 139 Question Id : 97675521561 Question Type : MCQ Option Shuffling : Yes Is Question Mandatory : No Option Orientation : Vertical

Correct Marks : 1 Wrong Marks : 0.25

Which common emotional patterns do develop during babyhood?

Options :

1. ✔ Curiosity and affection with toys
2. ✘ Anger and jealousy
3. ✘ Fear and irritation

4. ✖ Joy and Apathy

Question Number : 139 Question Id : 97675521561 Question Type : MCQ Option Shuffling : Yes Is Question Mandatory : No Option Orientation : Vertical

Correct Marks : 1 Wrong Marks : 0.25

शिशु अवस्था के दौरान कौन-से सामान्य भावनात्मक पैटर्न विकसित होते हैं?

Options :

1. ✔ खिलौनों के प्रति जिज्ञासा और स्नेह
2. ✖ क्रोध और ईर्ष्या
3. ✖ भय और जलन
4. ✖ खुशी और उदासीनता

Question Number : 140 Question Id : 97675521562 Question Type : MCQ Option Shuffling : Yes Is Question Mandatory : No Option Orientation : Vertical

Correct Marks : 1 Wrong Marks : 0.25

Which is NOT correct for fluid intelligence.

Options :

1. ✖ Fluid intelligence slows down and decrease with age.
2. ✖ If is genetically determined.
3. ✔ It is relatively dependent of formal education and experience.
4. ✖ It includes abilities such as perceptual or manual speed.

Question Number : 140 Question Id : 97675521562 Question Type : MCQ Option Shuffling : Yes Is Question Mandatory : No Option Orientation : Vertical

Correct Marks : 1 Wrong Marks : 0.25

निम्नलिखित में से कौन सा, तरल बुद्धि के संबंध में सही नहीं है?

Options :

1. ✖ तरल बुद्धि आयु बढ़ने के साथ धीमी हो जाती है और घट जाती है।
2. ✖ यह आनुवंशिक रूप से निर्धारित होती है।
3. ✔ यह अपेक्षाकृत औपचारिक शिक्षा और अनुभव पर निर्भर होती है।
4. ✖ इसमें अवधारणात्मक या मैन्युअल चाल जैसी क्षमताएं शामिल हैं।

Discipline3

Group Number : 8
Group Id : 976755749
Group Maximum Duration : 0
Group Minimum Duration : 0
Show Attended Group? : No
Edit Attended Group? : No
Break time : 0
Group Marks : 20
Is this Group for Examiner? : No

Discipline3

Section Id : 9767551179
Section Number : 1
Section type : Online
Mandatory or Optional : Mandatory
Number of Questions : 20
Number of Questions to be attempted : 20
Section Marks : 20
Enable Mark as Answered Mark for Review and Clear Response : Yes
Sub-Section Number : 1
Sub-Section Id : 9767551372
Question Shuffling Allowed : Yes

Question Number : 141 Question Id : 97675521563 Question Type : MCQ Option Shuffling : Yes Is Question Mandatory : No Option Orientation : Vertical

Correct Marks : 1 Wrong Marks : 0.25

"Intelligence includes one general factor and several specific factors:" who propounded this theory of Intelligence?

Options :

- ✓ Charles E. Spearman
- ✗ Alfred Binet
- ✗ T.G. Thurston
- ✗ Edward L. Thorndike

Question Number : 141 Question Id : 97675521563 Question Type : MCQ Option Shuffling : Yes Is Question Mandatory : No Option Orientation : Vertical

Correct Marks : 1 Wrong Marks : 0.25

"बुद्धिमत्ता में एक सामान्य कारक और कई विशिष्ट कारक शामिल होते हैं।" बुद्धिमत्ता के इस सिद्धांत को किसने प्रतिपादित किया है?

Options :

- ✓ चार्ल्स ई. स्पीयरमैन
- ✗ अल्फ्रेड बिनेट
- ✗ टी.जी. थर्स्टन
- ✗ एडवर्ड एल. थोर्नडाइक

Question Number : 142 Question Id : 97675521564 Question Type : MCQ Option Shuffling : Yes Is Question Mandatory : No Option Orientation : Vertical

Correct Marks : 1 Wrong Marks : 0.25

Which of the following test of intelligence propounded by Cattell?

Options :

- ✗ Coloured progressive matrices
- ✓ Theory of fluid and crystallized intelligence
- ✗ Block design test
- ✗ Performance Intelligence test

Question Number : 142 Question Id : 97675521564 Question Type : MCQ Option Shuffling : Yes Is Question Mandatory : No Option Orientation : Vertical

Correct Marks : 1 Wrong Marks : 0.25

निम्नलिखित में से कौन सा बुद्धिमत्ता परिक्षण कैटेल द्वारा प्रतिपादित है?

Options :

- ✗ रंगीन प्रगामी मैट्रिसेस

2. ✓ तरल और क्रिस्टलीकृत बुद्धिमत्ता का सिद्धांत
3. ✗ ब्लॉक डिजाइन परीक्षण
4. ✗ प्रदर्शन बुद्धिमत्ता परीक्षण

Question Number : 143 Question Id : 97675521565 Question Type : MCQ Option Shuffling : Yes Is Question Mandatory : No Option Orientation : Vertical

Correct Marks : 1 Wrong Marks : 0.25

Who made the first intelligence test in 1905?

Options :

1. ✓ Binet and Simon
2. ✗ Wechsler and Arthur
3. ✗ Cattell
4. ✗ Spearman

Question Number : 143 Question Id : 97675521565 Question Type : MCQ Option Shuffling : Yes Is Question Mandatory : No Option Orientation : Vertical

Correct Marks : 1 Wrong Marks : 0.25

1905 में प्रथम बुद्धिमत्ता परीक्षण किसने किया था?

Options :

1. ✓ बिनेट और साइमन
2. ✗ वेक्सलर और आर्थर
3. ✗ कैटेल
4. ✗ स्पीयरमैन

Question Number : 144 Question Id : 97675521566 Question Type : MCQ Option Shuffling : Yes Is Question Mandatory : No Option Orientation : Vertical

Correct Marks : 1 Wrong Marks : 0.25

Which of the following test is used to assess the intelligence of mentally challenged children?

Options :

1. ✗ Minnesota Test
2. ✗ Bell inventory

3. ✓ Seguin form Board Test.
4. ✗ Edwards Personal Performance Schedule

Question Number : 144 Question Id : 97675521566 Question Type : MCQ Option Shuffling : Yes Is Question Mandatory : No Option Orientation : Vertical

Correct Marks : 1 Wrong Marks : 0.25

मानसिक रूप से विकलांग बच्चों की बुद्धि का आकलन करने के लिए निम्नलिखित में से किस परीक्षण का उपयोग किया जाता है?

Options :

1. ✗ मिनेसोटा परीक्षण
2. ✗ बेल इन्वेंटरी
3. ✓ सेगुइन फॉर्म बोर्ड परीक्षण
4. ✗ एडवर्ड्स पर्सनल परफॉर्मेंस शेड्यूल

Question Number : 145 Question Id : 97675521567 Question Type : MCQ Option Shuffling : Yes Is Question Mandatory : No Option Orientation : Vertical

Correct Marks : 1 Wrong Marks : 0.25

According to the theory of three dimensional structure of intellect developed by J.P. Guilford, intellectual actively has which of the following dimensions?

Options :

1. ✗ Cognition Production and Evaluation
2. ✗ Contents, Cognition, and Evaluation
3. ✗ Operations, Cognition and Product
4. ✓ Operations, Contents and Product

Question Number : 145 Question Id : 97675521567 Question Type : MCQ Option Shuffling : Yes Is Question Mandatory : No Option Orientation : Vertical

Correct Marks : 1 Wrong Marks : 0.25

जेपी गिलफोर्ड द्वारा विकसित बुद्धि की त्रि-आयामी संरचना के सिद्धांत के अनुसार, निम्न में से कौन से बौद्धिक गतिवधि के आयाम हैं?

Options :

1. ✗ बोध, उत्पादन और मूल्यांकन
2. ✗ सामग्री, बोध और मूल्यांकन

3. ✘ संचालन, बोध और उत्पाद
4. ✔ संचालन, सामग्री और उत्पाद

Question Number : 146 Question Id : 97675521568 Question Type : MCQ Option Shuffling : Yes Is Question Mandatory : No Option Orientation : Vertical

Correct Marks : 1 Wrong Marks : 0.25

Which of the following are the behavioural problems of adolescence ?

Options :

1. ✘ Laziness and crying
2. ✔ Excessively moody and rebellion against parents
3. ✘ Lack of appetite and destroying school property
4. ✘ Crying and excessively thoughtful

Question Number : 146 Question Id : 97675521568 Question Type : MCQ Option Shuffling : Yes Is Question Mandatory : No Option Orientation : Vertical

Correct Marks : 1 Wrong Marks : 0.25

निम्नलिखित में से कौन-सी किशोरावस्था की व्यवहार संबंधी समस्याएं हैं?

Options :

1. ✘ आलस्य और रोना
2. ✔ अत्यधिक मिजाजी और माता-पिता के खिलाफ विद्रोही
3. ✘ भूख की कमी और स्कूल की संपत्ति को नष्ट करना
4. ✘ रोना और अत्यधिक विचारशील

Question Number : 147 Question Id : 97675521569 Question Type : MCQ Option Shuffling : Yes Is Question Mandatory : No Option Orientation : Vertical

Correct Marks : 1 Wrong Marks : 0.25

What is NOT true about behavioural problems?

Options :

1. ✔ Behavioural problems are hereditary in nature.
2. ✘ They are caused by social environment of the child.
3. ✘ The child shows behavioural problem to get rid of frustrating circumstances.

4. ✖ It may arise due to failure in life.

Question Number : 147 Question Id : 97675521569 Question Type : MCQ Option Shuffling : Yes Is Question Mandatory : No Option Orientation : Vertical

Correct Marks : 1 Wrong Marks : 0.25

व्यवहार संबंधी समस्याओं के बारे में क्या सत्य नहीं है?

Options :

1. ✔ व्यवहार संबंधी समस्याएं आनुवांशिक प्रकृति की होती हैं।
2. ✖ वे बच्चे के सामाजिक वातावरण के कारण होती हैं।
3. ✖ निराशाजनक परिस्थितियों से छुटकारा पाने के लिए बच्चा व्यवहार संबंधी समस्या दिखाता है।
4. ✖ यह जीवन में असफलता के कारण उत्पन्न हो सकती है।

Question Number : 148 Question Id : 97675521570 Question Type : MCQ Option Shuffling : Yes Is Question Mandatory : No Option Orientation : Vertical

Correct Marks : 1 Wrong Marks : 0.25

Who among the following are NOT largely responsible for behaviour problems of children?

Options :

1. ✖ school environment
2. ✖ Home environment
3. ✔ Social workers
4. ✖ Child's frustration

Question Number : 148 Question Id : 97675521570 Question Type : MCQ Option Shuffling : Yes Is Question Mandatory : No Option Orientation : Vertical

Correct Marks : 1 Wrong Marks : 0.25

निम्नलिखित में से क्या बच्चों की व्यवहार संबंधी समस्याओं के लिए बड़े पैमाने पर जिम्मेदार नहीं हैं?

Options :

1. ✖ विद्यालय का माहौल
2. ✖ घर का माहौल
3. ✔ सामाजिक कार्यकर्ता
4. ✖ बच्चे की निराशा

Question Number : 149 Question Id : 97675521571 Question Type : MCQ Option Shuffling : Yes Is Question Mandatory : No Option Orientation : Vertical

Correct Marks : 1 Wrong Marks : 0.25

The word Education has been derived from:

Options :

1. ✓ Educere
2. ✗ Eduware
3. ✗ Edutire
4. ✗ Edustatus

Question Number : 149 Question Id : 97675521571 Question Type : MCQ Option Shuffling : Yes Is Question Mandatory : No Option Orientation : Vertical

Correct Marks : 1 Wrong Marks : 0.25

एजुकेशन (Education) शब्द की उत्पत्ति _____ से हुई है।

Options :

1. ✓ एज्यूसिअर (Educere)
2. ✗ एज्युवेयर (Eduware)
3. ✗ एज्युटायर (Edutire)
4. ✗ एज्युस्टैटस (Edustatus)

Question Number : 150 Question Id : 97675521572 Question Type : MCQ Option Shuffling : Yes Is Question Mandatory : No Option Orientation : Vertical

Correct Marks : 1 Wrong Marks : 0.25

Which of the following is NOT the 'objective of value education'?

Options :

1. ✗ Inculcation of good manners.
2. ✗ Developing respect for the dignity of Individual and society.
3. ✓ To impart training in simple marketable skills.
4. ✗ Developing tolerance towards different-religion.

Question Number : 150 Question Id : 97675521572 Question Type : MCQ Option Shuffling : Yes Is Question Mandatory : No Option

Orientation : Vertical

Correct Marks : 1 Wrong Marks : 0.25

निम्नलिखित में से कौन सा 'मूल्य शिक्षा का उद्देश्य' नहीं है?

Options :

1. ✘ अच्छे संस्कारों को मन में बैठाना।
2. ✘ व्यक्ति और समाज की गरिमा के लिए आदर विकसित करना।
3. ✔ बाज़ार के योग्य सरल कौशल में प्रशिक्षण प्रदान करना।
4. ✘ विभिन्न धर्मों के प्रति सहिष्णुता का विकास करना।

Question Number : 151 Question Id : 97675521573 Question Type : MCQ Option Shuffling : Yes Is Question Mandatory : No Option

Orientation : Vertical

Correct Marks : 1 Wrong Marks : 0.25

The branch of philosophy which deals with knowledge is known as:

Options :

1. ✘ Axiology
2. ✘ Sociology
3. ✘ Metaphysic
4. ✔ Epistemology

Question Number : 151 Question Id : 97675521573 Question Type : MCQ Option Shuffling : Yes Is Question Mandatory : No Option

Orientation : Vertical

Correct Marks : 1 Wrong Marks : 0.25

दर्शनशास्त्र की वह शाखा जो ज्ञान से संबंधित है, _____ कहलाती है।

Options :

1. ✘ मूल्यमीमांसा
2. ✘ समाजशास्त्र
3. ✘ तत्वमीमांसा
4. ✔ ज्ञानमीमांसा

Question Number : 152 Question Id : 97675521574 Question Type : MCQ Option Shuffling : Yes Is Question Mandatory : No Option

Orientation : Vertical

Correct Marks : 1 Wrong Marks : 0.25

Who formaliz 'inductive reasoning'?

Options :

1. ✘ Aristotle
2. ✔ Francis Bacon
3. ✘ Dewey
4. ✘ Pestalozzi

Question Number : 152 Question Id : 97675521574 Question Type : MCQ Option Shuffling : Yes Is Question Mandatory : No Option Orientation : Vertical

Correct Marks : 1 Wrong Marks : 0.25

आगमनात्मक तर्क' को किसने औपचारिक रूप दिया?

Options :

1. ✘ अरस्तू
2. ✔ फ्रांसिस बेकन
3. ✘ डेवी
4. ✘ पेस्तालॉत्सी

Question Number : 153 Question Id : 97675521575 Question Type : MCQ Option Shuffling : Yes Is Question Mandatory : No Option Orientation : Vertical

Correct Marks : 1 Wrong Marks : 0.25

"Education is the manifestation of the divine already present in man". Who said this?

Options :

1. ✔ Swami Vivekanand
2. ✘ Gandhiji
3. ✘ Dewey
4. ✘ Aristotle

Question Number : 153 Question Id : 97675521575 Question Type : MCQ Option Shuffling : Yes Is Question Mandatory : No Option Orientation : Vertical

Correct Marks : 1 Wrong Marks : 0.25

"शिक्षा मनुष्य में पहले से मौजूद दिव्य पूर्णता की अभिव्यक्ति है।" यह किसने कहा है?

Options :

- ✓ स्वामी विवेकानंद
- ✗ गांधीजी
- ✗ डेवी
- ✗ अरस्तू

Question Number : 154 Question Id : 97675521576 Question Type : MCQ Option Shuffling : Yes Is Question Mandatory : No Option Orientation : Vertical

Correct Marks : 1 Wrong Marks : 0.25

Which of the following teaching methods is NOT related to Naturalism?

Options :

- ✗ Play way method
- ✓ Lecture method
- ✗ Montessori method
- ✗ Experimental method

Question Number : 154 Question Id : 97675521576 Question Type : MCQ Option Shuffling : Yes Is Question Mandatory : No Option Orientation : Vertical

Correct Marks : 1 Wrong Marks : 0.25

निम्नलिखित में से कौन सी अध्यापन विधि प्रकृतिवाद से संबंधित नहीं है?

Options :

- ✗ खेल विधि
- ✓ व्याख्यान विधि
- ✗ मोंटेसरी विधि
- ✗ प्रयोगात्मक विधि

Question Number : 155 Question Id : 97675521577 Question Type : MCQ Option Shuffling : Yes Is Question Mandatory : No Option Orientation : Vertical

Correct Marks : 1 Wrong Marks : 0.25

Which of the following is NOT main function of home in relation to the development of the child as a social being?

Options :

1. ✘ Socialization
2. ✘ Acculturation
3. ✔ Teaching specific academic skills
4. ✘ Sense of belongingness.

Question Number : 155 Question Id : 97675521577 Question Type : MCQ Option Shuffling : Yes Is Question Mandatory : No Option Orientation : Vertical

Correct Marks : 1 Wrong Marks : 0.25

बच्चे के सामाजिक प्राणी के रूप में विकास के लिए निम्न में से कौन सा घर का मुख्य कार्य नहीं है?

Options :

1. ✘ समाजीकरण
2. ✘ संस्कृतिग्राह्यता
3. ✔ अध्यापन विशिष्ट शैक्षणिक कौशल
4. ✘ अपनेपन का भाव

Question Number : 156 Question Id : 97675521578 Question Type : MCQ Option Shuffling : Yes Is Question Mandatory : No Option Orientation : Vertical

Correct Marks : 1 Wrong Marks : 0.25

How does Community influence the school?

Options :

1. ✘ Community influences the classroom transaction
2. ✔ Community influences the development of curriculum
3. ✘ Community influences the teacher's knowledge
4. ✘ Community influences the number of teachers in the school

Question Number : 156 Question Id : 97675521578 Question Type : MCQ Option Shuffling : Yes Is Question Mandatory : No Option Orientation : Vertical

Correct Marks : 1 Wrong Marks : 0.25

समुदाय स्कूल को कैसे प्रभावित करता है?

Options :

1. ✘ समुदाय कक्षा के व्यवहार को प्रभावित करता है।

2. ✓ समुदाय पाठ्यचर्या के विकास को प्रभावित करता है।
3. ✗ समुदाय शिक्षक के ज्ञान को प्रभावित करता है।
4. ✗ समुदाय विद्यालय में शिक्षकों की संख्या को प्रभावित करता है।

Question Number : 157 Question Id : 97675521579 Question Type : MCQ Option Shuffling : Yes Is Question Mandatory : No Option Orientation : Vertical

Correct Marks : 1 Wrong Marks : 0.25

School can be known as social agency because:

Options :

1. ✓ it transmits traditional culture
2. ✗ it teaches basic academic skills
3. ✗ it provides grades
4. ✗ it conducts examinations

Question Number : 157 Question Id : 97675521579 Question Type : MCQ Option Shuffling : Yes Is Question Mandatory : No Option Orientation : Vertical

Correct Marks : 1 Wrong Marks : 0.25

विद्यालय को सामाजिक संस्थान क्यों कहा जा सकता है?

Options :

1. ✓ क्योंकि यह पारंपरिक संस्कृति को प्रसारित करता है।
2. ✗ क्योंकि यह बुनियादी शैक्षणिक कौशल सिखाता है।
3. ✗ क्योंकि यह ग्रेड प्रदान करता है।
4. ✗ क्योंकि यह परीक्षा आयोजित करता है।

Question Number : 158 Question Id : 97675521580 Question Type : MCQ Option Shuffling : Yes Is Question Mandatory : No Option Orientation : Vertical

Correct Marks : 1 Wrong Marks : 0.25

Which agency assess the higher education agencies in India?

Options :

1. ✗ AICTE
2. ✗ NCERT

3. ✘ NCTE
4. ✔ NAAC

Question Number : 158 Question Id : 97675521580 Question Type : MCQ Option Shuffling : Yes Is Question Mandatory : No Option Orientation : Vertical

Correct Marks : 1 Wrong Marks : 0.25

कौन सी संस्था भारत में उच्च शिक्षण संस्थानों का आकलन करती है?

Options :

1. ✘ AICTE
2. ✘ NCERT
3. ✘ NCTE
4. ✔ NAAC

Question Number : 159 Question Id : 97675521581 Question Type : MCQ Option Shuffling : Yes Is Question Mandatory : No Option Orientation : Vertical

Correct Marks : 1 Wrong Marks : 0.25

Which of the following is related to the distance education?

Options :

1. ✘ Education outside structured curriculum
2. ✘ Education in regular classroom
3. ✔ Flexibility in space and time
4. ✘ Systematic education in school

Question Number : 159 Question Id : 97675521581 Question Type : MCQ Option Shuffling : Yes Is Question Mandatory : No Option Orientation : Vertical

Correct Marks : 1 Wrong Marks : 0.25

निम्नलिखित में से कौन सा दूरस्थ शिक्षा से संबंधित है?

Options :

1. ✘ संरचित पाठ्यक्रम के बाहर शिक्षा
2. ✘ नियमित कक्षा में शिक्षा
3. ✔ स्थान और समय में सुनम्यता

4. ✖ विद्यालय में सुव्यवस्थित शिक्षा

Question Number : 160 Question Id : 97675521582 Question Type : MCQ Option Shuffling : Yes Is Question Mandatory : No Option Orientation : Vertical

Correct Marks : 1 Wrong Marks : 0.25

Which of the following is an advantage of formal Education?

Options :

- ✔ Structured and systematic learning process
- ✖ Chances of bad habits adoption
- ✖ No specific time span
- ✖ No need to hire experts

Question Number : 160 Question Id : 97675521582 Question Type : MCQ Option Shuffling : Yes Is Question Mandatory : No Option Orientation : Vertical

Correct Marks : 1 Wrong Marks : 0.25

निम्नलिखित में से कौन सा औपचारिक शिक्षा का एक लाभ है?

Options :

- ✔ संरचित और सुव्यवस्थित अध्ययन प्रक्रिया
- ✖ बुरी आदतों को अपनाने की संभावना
- ✖ कोई विशिष्ट समय अवधि नहीं
- ✖ विशेषज्ञों को नियुक्त करने की आवश्यकता नहीं है

Discipline4

Group Number :	9
Group Id :	976755750
Group Maximum Duration :	0
Group Minimum Duration :	0
Show Attended Group? :	No
Edit Attended Group? :	No
Break time :	0

Group Marks : 20
Is this Group for Examiner? : No

Discipline4

Section Id : 9767551180
Section Number : 1
Section type : Online
Mandatory or Optional : Mandatory
Number of Questions : 20
Number of Questions to be attempted : 20
Section Marks : 20
Enable Mark as Answered Mark for Review and Clear Response : Yes
Sub-Section Number : 1
Sub-Section Id : 9767551373
Question Shuffling Allowed : Yes

Question Number : 161 Question Id : 97675521583 Question Type : MCQ Option Shuffling : Yes Is Question Mandatory : No Option Orientation : Vertical

Correct Marks : 1 Wrong Marks : 0.25

What is the full form of IEDC ?

Options :

- ✘ Inclusive Education for Disabled Children
- ✔ Integrated Education for Disabled children
- ✘ Institute for the Education of disabled
- ✘ Integrated Education of Disabled Council

Question Number : 161 Question Id : 97675521583 Question Type : MCQ Option Shuffling : Yes Is Question Mandatory : No Option Orientation : Vertical

Correct Marks : 1 Wrong Marks : 0.25

IEDC का पूर्ण रूप क्या है?

Options :

1. ✘ इंकलूसिव एजुकेशन फॉर डिसेबलड चिल्ड्रेन
2. ✔ इंटीग्रेटेड एजुकेशन फॉर डिसेबलड चिल्ड्रेन
3. ✘ इंस्टिट्यूट फॉर द एजुकेशन ऑफ़ डिसेबलड
4. ✘ इंटीग्रेटेड एजुकेशन ऑफ़ डिसेबलड काउंसिल

Question Number : 162 Question Id : 97675521584 Question Type : MCQ Option Shuffling : Yes Is Question Mandatory : No Option Orientation : Vertical

Correct Marks : 1 Wrong Marks : 0.25

How many disabilities are there in RPWD Act, 2016 ?

Options :

1. ✘ 16
2. ✘ 7
3. ✘ 18
4. ✔ 21

Question Number : 162 Question Id : 97675521584 Question Type : MCQ Option Shuffling : Yes Is Question Mandatory : No Option Orientation : Vertical

Correct Marks : 1 Wrong Marks : 0.25

RPWD अधिनियम, 2016 में कितनी अक्षमताएं (disabilities) शामिल हैं?

Options :

1. ✘ 16
2. ✘ 7
3. ✘ 18
4. ✔ 21

Question Number : 163 Question Id : 97675521585 Question Type : MCQ Option Shuffling : Yes Is Question Mandatory : No Option Orientation : Vertical

Correct Marks : 1 Wrong Marks : 0.25

Which of the following is NOT the main aim of the Rehabilitation council of India?

Options :

1. ✘ To regulate training policies and programs in the field of disability rehabilitation.

2. ✓ To provide fund to the institutions
3. ✗ To standardize training courses for professionals working with PWD
4. ✗ To recognize institutions running courses in the field of disability

Question Number : 163 Question Id : 97675521585 Question Type : MCQ Option Shuffling : Yes Is Question Mandatory : No Option Orientation : Vertical

Correct Marks : 1 Wrong Marks : 0.25

निम्नलिखित में से कौन सा भारतीय पुनर्वास परिषद का मुख्य उद्देश्य नहीं है?

Options :

1. ✗ विकलांगता पुनर्वास के क्षेत्र में प्रशिक्षण नीतियों और कार्यक्रमों को विनियमित करना।
2. ✓ संस्थाओं को निधि प्रदान करना।
3. ✗ PWD के साथ काम करने वाले पेशेवरों के लिए प्रशिक्षण पाठ्यक्रमों का मानकीकरण करना।
4. ✗ विकलांगता के क्षेत्र में पाठ्यक्रम चलाने वाले संस्थानों को मान्यता देना।

Question Number : 164 Question Id : 97675521586 Question Type : MCQ Option Shuffling : Yes Is Question Mandatory : No Option Orientation : Vertical

Correct Marks : 1 Wrong Marks : 0.25

Which of the following scheme is replaced by IEDSS Scheme?

Options :

1. ✓ IEDC
2. ✗ SSA
3. ✗ RMSA
4. ✗ IEDS

Question Number : 164 Question Id : 97675521586 Question Type : MCQ Option Shuffling : Yes Is Question Mandatory : No Option Orientation : Vertical

Correct Marks : 1 Wrong Marks : 0.25

निम्नलिखित में से कौन-सी योजना, IEDSS योजना द्वारा प्रतिस्थापित की गई है?

Options :

1. ✓ IEDC
2. ✗ SSA

3. ✘ RMSA
4. ✘ IEDS

Question Number : 165 Question Id : 97675521587 Question Type : MCQ Option Shuffling : Yes Is Question Mandatory : No Option Orientation : Vertical

Correct Marks : 1 Wrong Marks : 0.25

The main objective of 'SSA' is:

Options :

1. ✘ Universalization of higher education.
2. ✘ Providing canes to the visually impaired teachers.
3. ✔ Universalization of elementary education.
4. ✘ Providing education to secondary level students.

Question Number : 165 Question Id : 97675521587 Question Type : MCQ Option Shuffling : Yes Is Question Mandatory : No Option Orientation : Vertical

Correct Marks : 1 Wrong Marks : 0.25

SSA' का मुख्य उद्देश्य क्या है?

Options :

1. ✘ उच्च शिक्षा का सार्वभौमीकरण।
2. ✘ दृष्टिबाधित शिक्षकों को छड़ी (canes) उपलब्ध कराना।
3. ✔ प्रारंभिक शिक्षा का सार्वभौमीकरण।
4. ✘ माध्यमिक स्तर के छात्रों को शिक्षा प्रदान करना।

Question Number : 166 Question Id : 97675521588 Question Type : MCQ Option Shuffling : Yes Is Question Mandatory : No Option Orientation : Vertical

Correct Marks : 1 Wrong Marks : 0.25

What is the full form of ADIP scheme?

Options :

1. ✘ Aids and Appliances for disabled person
2. ✘ Aids for disability Institutions and Purchase
3. ✘ Assistive devices for disabled person

4. ✓ Assistance to Disabled Persons for Purchase / Fitting of Aids and Appliances

Question Number : 166 Question Id : 97675521588 Question Type : MCQ Option Shuffling : Yes Is Question Mandatory : No Option Orientation : Vertical

Correct Marks : 1 Wrong Marks : 0.25

ADIP योजना का पूर्ण रूप क्या है?

Options :

- ✘ ऐड्स एंड एप्लायंसेज फॉर डिसेबल्ड पर्सन
- ✘ ऐड्स फॉर डिसेबिलिटी इंस्टिट्यूशंस एंड परचेस
- ✘ असिस्टिव डिवाइसेस फॉर डिसेबल्ड पर्सन
- ✓ असिस्टेंस टू डिसेबल्ड पर्सन्स फॉर परचेस / फिटिंग ऑफ़ ऐड्स एंड एप्लायंसेज

Question Number : 167 Question Id : 97675521589 Question Type : MCQ Option Shuffling : Yes Is Question Mandatory : No Option Orientation : Vertical

Correct Marks : 1 Wrong Marks : 0.25

In which article of the Constitution directs the State to provide free and compulsory education for all children (including the disabled) until they attain the age of 14 years?

Options :

- ✘ Article 54
- ✓ Article 45
- ✘ Article 36
- ✘ Article 34

Question Number : 167 Question Id : 97675521589 Question Type : MCQ Option Shuffling : Yes Is Question Mandatory : No Option Orientation : Vertical

Correct Marks : 1 Wrong Marks : 0.25

संविधान के किस अनुच्छेद में राज्य के सभी बच्चों (दिव्यांगो सहित) को 14 वर्ष की आयु तक निःशुल्क और अनिवार्य शिक्षा प्रदान करने का निर्देश दिया गया है?

Options :

- ✘ अनुच्छेद 54
- ✓ अनुच्छेद 45
- ✘ अनुच्छेद 36

4. ✖ अनुच्छेद 34

Question Number : 168 Question Id : 97675521590 Question Type : MCQ Option Shuffling : Yes Is Question Mandatory : No Option Orientation : Vertical

Correct Marks : 1 Wrong Marks : 0.25

"The school organization should be dynamic in nature, not static." which principle is this?

Options :

1. ✔ Principle of flexibility.
2. ✖ Democratic principle
3. ✖ Child-centered principle
4. ✖ Community centered principle

Question Number : 168 Question Id : 97675521590 Question Type : MCQ Option Shuffling : Yes Is Question Mandatory : No Option Orientation : Vertical

Correct Marks : 1 Wrong Marks : 0.25

"स्कूल संगठन प्रकृति में गतिशील होना चाहिए, स्थिर नहीं।" यह कौन सा सिद्धांत है?

Options :

1. ✔ सुनम्यता का सिद्धांत
2. ✖ लोकतांत्रिक सिद्धांत
3. ✖ बाल-केंद्रित सिद्धांत
4. ✖ समुदाय केंद्रित सिद्धांत

Question Number : 169 Question Id : 97675521591 Question Type : MCQ Option Shuffling : Yes Is Question Mandatory : No Option Orientation : Vertical

Correct Marks : 1 Wrong Marks : 0.25

Which of the following is NOT the significance of school organization?

Options :

1. ✖ To ensure smooth functioning of a school
2. ✖ To avoid under and over utilization of the resources
3. ✔ To improve the socio-economic status of children.
4. ✖ To create a professional image of a school

Question Number : 169 Question Id : 97675521591 Question Type : MCQ Option Shuffling : Yes Is Question Mandatory : No Option Orientation : Vertical

Correct Marks : 1 Wrong Marks : 0.25

निम्नलिखित में से कौन सा, स्कूल संगठन का एक महत्व नहीं है?

Options :

- ✘ स्कूल के सुचारू संचालन को सुनिश्चित करना।
- ✘ संसाधनों के कम और अधिक उपयोग को टालना।
- ✔ बच्चों की सामाजिक-आर्थिक स्थिति में सुधार लाना।
- ✘ स्कूल की पेशेवर छवि बनाना।

Question Number : 170 Question Id : 97675521592 Question Type : MCQ Option Shuffling : Yes Is Question Mandatory : No Option Orientation : Vertical

Correct Marks : 1 Wrong Marks : 0.25

The most common type of information often included in case histories is:

Options :

- ✘ Student's progress
- ✘ The results of Judgments
- ✘ Marks statement of previous classes
- ✔ Past and Present treatments

Question Number : 170 Question Id : 97675521592 Question Type : MCQ Option Shuffling : Yes Is Question Mandatory : No Option Orientation : Vertical

Correct Marks : 1 Wrong Marks : 0.25

केस हिस्ट्री में प्रायः शामिल की जाने वाली सबसे सामान्य प्रकार की जानकारी कौन सी है?

Options :

- ✘ छात्र की प्रगति
- ✘ निर्णयों के परिणाम
- ✘ पिछली कक्षाओं के अंक
- ✔ विगत और वर्तमान इलाज

Question Number : 171 Question Id : 97675521593 Question Type : MCQ Option Shuffling : Yes Is Question Mandatory : No Option Orientation : Vertical

Correct Marks : 1 Wrong Marks : 0.25

Continuous and comprehensive Evaluation (CCE) was introduced by:

Options :

1. ✘ NCERT
2. ✔ CBSE
3. ✘ NCTE
4. ✘ RCI

Question Number : 171 Question Id : 97675521593 Question Type : MCQ Option Shuffling : Yes Is Question Mandatory : No Option Orientation : Vertical

Correct Marks : 1 Wrong Marks : 0.25

सतत और व्यापक मूल्यांकन (CCE) किसके द्वारा शुरू किया गया था?

Options :

1. ✘ NCERT
2. ✔ CBSE
3. ✘ NCTE
4. ✘ RCI

Question Number : 172 Question Id : 97675521594 Question Type : MCQ Option Shuffling : Yes Is Question Mandatory : No Option Orientation : Vertical

Correct Marks : 1 Wrong Marks : 0.25

Which assessment measures that how much a student has learnt from the class through an examination conducted at the end of a term?

Options :

1. ✔ Summative Assessment
2. ✘ Formative assessment
3. ✘ Non formal assessment.
4. ✘ Informal assessment

Question Number : 172 Question Id : 97675521594 Question Type : MCQ Option Shuffling : Yes Is Question Mandatory : No Option Orientation : Vertical

Correct Marks : 1 Wrong Marks : 0.25

कौन-सा मूल्यांकन सत्र के अंत में आयोजित एक परीक्षा के माध्यम से यह आकलन करता है कि किसी छात्र ने एक कक्षा से कितना सीखा है?

Options :

1. ✓ योगात्मक मूल्यांकन
2. ✗ रचनात्मक मूल्यांकन
3. ✗ गैर-औपचारिक मूल्यांकन
4. ✗ अनौपचारिक मूल्यांकन

Question Number : 173 Question Id : 97675521595 Question Type : MCQ Option Shuffling : Yes Is Question Mandatory : No Option Orientation : Vertical

Correct Marks : 1 Wrong Marks : 0.25

Which of the following is NOT the duty of head of school?

Options :

1. ✗ Proper maintenance of accounts of the school
2. ✗ To handle official correspondence relating to the school
3. ✓ To solve the family problems of students
4. ✗ To plan the year's academic work

Question Number : 173 Question Id : 97675521595 Question Type : MCQ Option Shuffling : Yes Is Question Mandatory : No Option Orientation : Vertical

Correct Marks : 1 Wrong Marks : 0.25

निम्नलिखित में से कौन सा विद्यालय के प्रधान का कर्तव्य नहीं है?

Options :

1. ✗ स्कूल के खातों का उचित रखरखाव
2. ✗ स्कूल से संबंधित आधिकारिक पत्राचार को संभालना
3. ✓ छात्रों की पारिवारिक समस्याओं का समाधान करना
4. ✗ वर्ष के शैक्षणिक कार्य की योजना बनाना

Question Number : 174 Question Id : 97675521596 Question Type : MCQ Option Shuffling : Yes Is Question Mandatory : No Option Orientation : Vertical

Correct Marks : 1 Wrong Marks : 0.25

An approach of education, towards educating the children with disability with that of normal ones within the same roof is known as:

Options :

1. ✓ Inclusive education
2. ✗ Integrated education
3. ✗ Special education
4. ✗ General education

Question Number : 174 Question Id : 97675521596 Question Type : MCQ Option Shuffling : Yes Is Question Mandatory : No Option Orientation : Vertical

Correct Marks : 1 Wrong Marks : 0.25

एक ही छत के नीचे सामान्य बच्चों के साथ दिव्यांग बच्चों को शिक्षित करने की दिशा में शिक्षा के दृष्टिकोण को क्या कहा जाता है?

Options :

1. ✓ समावेशी शिक्षा
2. ✗ एकीकृत शिक्षा
3. ✗ विशेष शिक्षा
4. ✗ सामान्य शिक्षा

Question Number : 175 Question Id : 97675521597 Question Type : MCQ Option Shuffling : Yes Is Question Mandatory : No Option Orientation : Vertical

Correct Marks : 1 Wrong Marks : 0.25

Which of the following is NOT the objective of Inclusive education?

Options :

1. ✗ To address the diverse needs of all learners.
2. ✗ To reduce the barrier's inside schools
3. ✓ To prepare the curriculum for normal students only
4. ✗ To strengthen the capacity of the education system to reach out to all learners.

Question Number : 175 Question Id : 97675521597 Question Type : MCQ Option Shuffling : Yes Is Question Mandatory : No Option Orientation : Vertical

Correct Marks : 1 Wrong Marks : 0.25

निम्नलिखित में से कौन सा समावेशी शिक्षा का उद्देश्य नहीं है?

Options :

- ✘ सभी शिक्षार्थियों की विविध आवश्यकताओं को पूरा करना।
- ✘ स्कूलों के अंदर की बाधाओं को कम करना।
- ✔ केवल सामान्य छात्रों के लिए पाठ्यक्रम तैयार करना।
- ✘ सभी शिक्षार्थियों तक पहुंचने के लिए शिक्षा प्रणाली की क्षमता को मजबूत करना।

Question Number : 176 Question Id : 97675521598 Question Type : MCQ Option Shuffling : Yes Is Question Mandatory : No Option Orientation : Vertical

Correct Marks : 1 Wrong Marks : 0.25

In an inclusive school students eat at the same lunch tables and play together in the playground. Which type of inclusion is it?

Options :

- ✘ Physical Inclusion
- ✘ Academic Inclusion
- ✘ Political Inclusion.
- ✔ Social Inclusion

Question Number : 176 Question Id : 97675521598 Question Type : MCQ Option Shuffling : Yes Is Question Mandatory : No Option Orientation : Vertical

Correct Marks : 1 Wrong Marks : 0.25

एक समावेशी स्कूल में छात्र एक ही लंच टेबल पर खाते हैं और खेल के मैदान में एक साथ खेलते हैं। यह किस प्रकार का समावेशन है?

Options :

- ✘ शारीरिक समावेशन
- ✘ शैक्षणिक समावेशन
- ✘ राजनीतिक समावेशन
- ✔ सामाजिक समावेशन

Question Number : 177 Question Id : 97675521599 Question Type : MCQ Option Shuffling : Yes Is Question Mandatory : No Option Orientation : Vertical

Correct Marks : 1 Wrong Marks : 0.25

In which of the following physical inclusion exists?

Options :

- ✔ When all students have equitable access to all facilities.

2. ✖ When all students engage in the teaching learning process.
3. ✖ When all students participate in the same club.
4. ✖ When all students play together

Question Number : 177 Question Id : 97675521599 Question Type : MCQ Option Shuffling : Yes Is Question Mandatory : No Option Orientation : Vertical

Correct Marks : 1 Wrong Marks : 0.25

निम्नलिखित में से किसमें भौतिक समावेशन मौजूद है?

Options :

1. ✔ जब सभी छात्रों को सभी सुविधाओं तक समान पहुंच प्राप्त हो।
2. ✖ जब सभी छात्र अध्यापन-अध्ययन प्रक्रिया में संलग्न होते हैं।
3. ✖ जब सभी छात्र एक ही क्लब में भाग लेते हैं।
4. ✖ जब सभी छात्र एक साथ खेलते हैं।

Question Number : 178 Question Id : 97675521600 Question Type : MCQ Option Shuffling : Yes Is Question Mandatory : No Option Orientation : Vertical

Correct Marks : 1 Wrong Marks : 0.25

Which of the following is NOT the scope of Inclusive Education?

Options :

1. ✖ Valuing all students equally
2. ✖ Reducing barriers to learning
3. ✔ Viewing difference between students as a problem
4. ✖ Focusing increase participation of all students in the cultural programs

Question Number : 178 Question Id : 97675521600 Question Type : MCQ Option Shuffling : Yes Is Question Mandatory : No Option Orientation : Vertical

Correct Marks : 1 Wrong Marks : 0.25

निम्नलिखित में से कौन सा समावेशी शिक्षा का कार्यक्षेत्र नहीं है?

Options :

1. ✖ सभी छात्रों को समान रूप से महत्व देना।
2. ✖ सीखने में आने वाली बाधाओं को कम करना।

3. ✓ छात्रों के बीच अंतर को समस्या के रूप में देखना।
4. ✗ सांस्कृतिक कार्यक्रमों में सभी विद्यार्थियों की भागीदारी बढ़ाने पर ध्यान केंद्रित करना।

Question Number : 179 Question Id : 97675521601 Question Type : MCQ Option Shuffling : Yes Is Question Mandatory : No Option Orientation : Vertical

Correct Marks : 1 Wrong Marks : 0.25

An approach that ensures that everyone has access to the same opportunities is called:

Options :

1. ✓ Equity
2. ✗ Accountability
3. ✗ Reliability
4. ✗ Relevance

Question Number : 179 Question Id : 97675521601 Question Type : MCQ Option Shuffling : Yes Is Question Mandatory : No Option Orientation : Vertical

Correct Marks : 1 Wrong Marks : 0.25

एक दृष्टिकोण जो यह सुनिश्चित करता है कि सभी की समान अवसरों तक पहुंच हो, _____ कहलाता है।

Options :

1. ✓ समता
2. ✗ जवाबदेही
3. ✗ विश्वसनीयता
4. ✗ प्रासंगिकता

Question Number : 180 Question Id : 97675521602 Question Type : MCQ Option Shuffling : Yes Is Question Mandatory : No Option Orientation : Vertical

Correct Marks : 1 Wrong Marks : 0.25

What are the fundamental elements of inclusive school?

Options :

1. ✗ Access, Equality and Reliability
2. ✗ Equity, Reliability and Empowerment
3. ✓ Access, Equity and Empowerment

4. ✖ Accessibility, Equity and Reliability

Question Number : 180 Question Id : 97675521602 Question Type : MCQ Option Shuffling : Yes Is Question Mandatory : No Option Orientation : Vertical

Correct Marks : 1 Wrong Marks : 0.25

समावेशी विद्यालय के मूल तत्व क्या हैं?

Options :

1. ✖ पहुंच, समानता और विश्वसनीयता
2. ✖ समता, विश्वसनीयता और अधिकारिता
3. ✔ पहुंच, समता और अधिकारिता
4. ✖ सुलभता, समता और विश्वसनीयता

Group Number :	10
Group Id :	976755751
Group Maximum Duration :	0
Group Minimum Duration :	120
Show Attended Group? :	No
Edit Attended Group? :	No
Break time :	0
Group Marks :	20
Is this Group for Examiner? :	No

Discipline5

Discipline5

Section Id :	9767551181
Section Number :	1
Section type :	Online
Mandatory or Optional :	Mandatory
Number of Questions :	20
Number of Questions to be attempted :	20

Section Marks : 20
Enable Mark as Answered Mark for Review and Clear Response : Yes
Sub-Section Number : 1
Sub-Section Id : 9767551374
Question Shuffling Allowed : Yes

Question Number : 181 Question Id : 97675521603 Question Type : MCQ Option Shuffling : Yes Is Question Mandatory : No Option Orientation : Vertical

Correct Marks : 1 Wrong Marks : 0.25

In which type of learning, students work in groups to complete tasks collectively toward academic goals?

Options :

1. ✘ Peer tutoring
2. ✔ Cooperative learning
3. ✘ Distant learning
4. ✘ Visual learning.

Question Number : 181 Question Id : 97675521603 Question Type : MCQ Option Shuffling : Yes Is Question Mandatory : No Option Orientation : Vertical

Correct Marks : 1 Wrong Marks : 0.25

किस प्रकार के अध्ययन में छात्र सामूहिक रूप से शैक्षिक लक्ष्यों को पूरा करने के लिए समूहों में कार्य करते हैं?

Options :

1. ✘ सहपाठी (peer) अध्ययन
2. ✔ सहयोगी अध्ययन
3. ✘ दूरस्थ अध्ययन
4. ✘ दृश्य अध्ययन

Question Number : 182 Question Id : 97675521604 Question Type : MCQ Option Shuffling : Yes Is Question Mandatory : No Option Orientation : Vertical

Correct Marks : 1 Wrong Marks : 0.25

Peer tutoring is:

Options :

1. ✔ Students teaching each other on one to one basis

2. ✖ Students learning together in a classroom
3. ✖ Students learn in a group
4. ✖ Students learn individually

Question Number : 182 Question Id : 97675521604 Question Type : MCQ Option Shuffling : Yes Is Question Mandatory : No Option Orientation : Vertical

Correct Marks : 1 Wrong Marks : 0.25

सहपाठी (peer) अध्ययन क्या है?

Options :

1. ✔ एकैक आधार पर एक दूसरे को पढ़ाते छात्र
2. ✖ कक्षा में एक साथ सीख रहे छात्र
3. ✖ समूह में सीख रहे छात्र
4. ✖ व्यक्तिगत रूप से सीख रहे छात्र

Question Number : 183 Question Id : 97675521605 Question Type : MCQ Option Shuffling : Yes Is Question Mandatory : No Option Orientation : Vertical

Correct Marks : 1 Wrong Marks : 0.25

The process of teaching and learning to the students of differing abilities in the same class is called:

Options :

1. ✖ Relevant instructions
2. ✖ Modulated instructions
3. ✖ Special instructions
4. ✔ Differentiated Instructions

Question Number : 183 Question Id : 97675521605 Question Type : MCQ Option Shuffling : Yes Is Question Mandatory : No Option Orientation : Vertical

Correct Marks : 1 Wrong Marks : 0.25

एक ही कक्षा में विभिन्न योग्यताओं वाले विद्यार्थियों के अध्यापन-अध्ययन की प्रक्रिया क्या कहलाती है?

Options :

1. ✖ प्रासंगिक निर्देश
2. ✖ मॉड्यूलित निर्देश

3. ✖ विशेष निर्देश
4. ✔ विभेदित निर्देश

Question Number : 184 Question Id : 97675521606 Question Type : MCQ Option Shuffling : Yes Is Question Mandatory : No Option Orientation : Vertical

Correct Marks : 1 Wrong Marks : 0.25

How can we increase the physical accessibility of schools?

Options :

1. ✖ By creating Awareness
2. ✖ By changing the attitude of parents
3. ✔ By making ramps in schools
4. ✖ Through the counselling of parents

Question Number : 184 Question Id : 97675521606 Question Type : MCQ Option Shuffling : Yes Is Question Mandatory : No Option Orientation : Vertical

Correct Marks : 1 Wrong Marks : 0.25

हम स्कूलों की भौतिक सुलभता को कैसे बढ़ा सकते हैं?

Options :

1. ✖ जागरूकता पैदा करके
2. ✖ माता-पिता का नजरिया बदल कर
3. ✔ विद्यालयों में रैंप बनाकर
4. ✖ माता-पिता को परामर्श देकर

Question Number : 185 Question Id : 97675521607 Question Type : MCQ Option Shuffling : Yes Is Question Mandatory : No Option Orientation : Vertical

Correct Marks : 1 Wrong Marks : 0.25

Which is not true about Universal Design for Learning?

Options :

1. ✖ Design learning experiences that accommodate the varying level skills and abilities among students.
2. ✖ Reduces the need for special adaptations for students with disabilities.
3. ✖ Maximizes learning for all students

4. ✓ Give emphasis on "training to the parents."

Question Number : 185 Question Id : 97675521607 Question Type : MCQ Option Shuffling : Yes Is Question Mandatory : No Option Orientation : Vertical

Correct Marks : 1 Wrong Marks : 0.25

सीखने के लिए यूनिवर्सल डिजाइन के संबंध में कौन-सा विकल्प सही नहीं है?

Options :

1. ✗ डिजाइन लर्निंग के वे अनुभव जो छात्रों के बीच अलग-अलग स्तर के कौशल और क्षमताओं को समायोजित करते हैं।
2. ✗ दिव्यांग छात्रों के लिए विशेष अनुकूलन की आवश्यकता को कम करता है।
3. ✗ सभी छात्रों के लिए अधिगम को बढ़ाता है।
4. ✓ "माता-पिता को प्रशिक्षण" देने पर जोर देता है।

Question Number : 186 Question Id : 97675521608 Question Type : MCQ Option Shuffling : Yes Is Question Mandatory : No Option Orientation : Vertical

Correct Marks : 1 Wrong Marks : 0.25

UDL is based on which of the following principles?

Options :

1. ✓ Engagement, Representation, Action and expression
2. ✗ Engagement, transition and Evaluation
3. ✗ Representation, continuity and Action
4. ✗ Evaluation, transition, Action and expression

Question Number : 186 Question Id : 97675521608 Question Type : MCQ Option Shuffling : Yes Is Question Mandatory : No Option Orientation : Vertical

Correct Marks : 1 Wrong Marks : 0.25

UDL निम्नलिखित में से किस सिद्धांत पर आधारित है?

Options :

1. ✓ संलग्नता, निरूपण, क्रिया और अभिव्यक्ति
2. ✗ संलग्नता, संक्रमण और मूल्यांकन
3. ✗ निरूपण, सातत्यता और क्रिया
4. ✗ मूल्यांकन, संक्रमण, क्रिया और अभिव्यक्ति

Question Number : 187 Question Id : 97675521609 Question Type : MCQ Option Shuffling : Yes Is Question Mandatory : No Option Orientation : Vertical

Correct Marks : 1 Wrong Marks : 0.25

Which of the following is CORRECT for inclusion of a hearing impaired child?

Options :

1. ✘ Use of talking books
2. ✘ Use of tactile graphs and diagrams
3. ✔ Use of sign language
4. ✘ Use of tape-recorders

Question Number : 187 Question Id : 97675521609 Question Type : MCQ Option Shuffling : Yes Is Question Mandatory : No Option Orientation : Vertical

Correct Marks : 1 Wrong Marks : 0.25

श्रवण बाधित बच्चे के अनुरूप समावेशी वातावरण के निर्माण के लिए निम्नलिखित में क्या सही है?

Options :

1. ✘ ध्वन्यांकित पुस्तकों का उपयोग
2. ✘ स्पर्शणीय रेखांकन और आरेखों का उपयोग
3. ✔ सांकेतिक भाषा का उपयोग
4. ✘ टेप-रिकॉर्डर का उपयोग

Question Number : 188 Question Id : 97675521610 Question Type : MCQ Option Shuffling : Yes Is Question Mandatory : No Option Orientation : Vertical

Correct Marks : 1 Wrong Marks : 0.25

Which type of teaching learning material we should use in an inclusive classroom when we have a student with visual impairment?

Options :

1. ✘ Use of Flash cards
2. ✔ Tactile diagrams
3. ✘ Material with small print
4. ✘ Projector

Question Number : 188 Question Id : 97675521610 Question Type : MCQ Option Shuffling : Yes Is Question Mandatory : No Option

Orientation : Vertical

Correct Marks : 1 Wrong Marks : 0.25

दृष्टिबाधित छात्रों के लिए समावेशी कक्षा में हमें किस प्रकार की अध्यापन अध्ययन सामग्री का उपयोग करना चाहिए?

Options :

1. ✘ फ्लैश कार्ड का उपयोग
2. ✔ स्पर्श आरेख
3. ✘ छोटे प्रिंट वाली पाठ्य सामग्री
4. ✘ प्रोजेक्टर

Question Number : 189 Question Id : 97675521611 Question Type : MCQ Option Shuffling : Yes Is Question Mandatory : No Option

Orientation : Vertical

Correct Marks : 1 Wrong Marks : 0.25

How can we control the 'out of seat behaviour' of intellectually disabled children?

Options :

1. ✔ Provide work in small segments followed by a break
2. ✘ Tell him to read a chapter
3. ✘ Provide a comfortable chair
4. ✘ Allow him to go around

Question Number : 189 Question Id : 97675521611 Question Type : MCQ Option Shuffling : Yes Is Question Mandatory : No Option

Orientation : Vertical

Correct Marks : 1 Wrong Marks : 0.25

हम बौद्धिक रूप से अक्षम बच्चों के 'आउट ऑफ़ सिट बिहैवियर' को कैसे नियंत्रित कर सकते हैं?

Options :

1. ✔ ब्रेक देते हुए छोटे छोटे टुकड़ों में काम दें।
2. ✘ उसे एक अध्याय पढ़ने के लिए कहें।
3. ✘ एक आरामदायक कुर्सी प्रदान करें।
4. ✘ उसे इधर-उधर जाने दें।

Question Number : 190 Question Id : 97675521612 Question Type : MCQ Option Shuffling : Yes Is Question Mandatory : No Option

Orientation : Vertical

Correct Marks : 1 Wrong Marks : 0.25

What should we do in a classroom when a child is unable to write?

Options :

- ✘ Can say not to write
- ✘ Tell his teacher to write
- ✔ Provide adequate time or scribe
- ✘ Tell him to read

Question Number : 190 Question Id : 97675521612 Question Type : MCQ Option Shuffling : Yes Is Question Mandatory : No Option Orientation : Vertical

Correct Marks : 1 Wrong Marks : 0.25

जब कोई बच्चा लिखने में असमर्थ हो तो हमें कक्षा में क्या करना चाहिए?

Options :

- ✘ उसे लिखने के लिए मना कर सकते हैं।
- ✘ उसके शिक्षक को लिखने के लिए कहना।
- ✔ पर्याप्त समय या श्रुतिलेखक प्रदान करना।
- ✘ उसे पढ़ने के लिए कहना।

Question Number : 191 Question Id : 97675521613 Question Type : MCQ Option Shuffling : Yes Is Question Mandatory : No Option Orientation : Vertical

Correct Marks : 1 Wrong Marks : 0.25

Which of the following techniques are not used generally for learning disabled children?

Options :

- ✘ Use short, brief directions
- ✔ Use tactile pictures
- ✘ Use consistent language, colour cues
- ✘ Use pictorial illustrations

Question Number : 191 Question Id : 97675521613 Question Type : MCQ Option Shuffling : Yes Is Question Mandatory : No Option Orientation : Vertical

Correct Marks : 1 Wrong Marks : 0.25

निम्न में से कौन-सी तकनीक अधिगम प्रक्रिया में अक्षम बच्चों को सिखाने के लिए सामान्यतः उपयोग नहीं की जाती है?

Options :

- ✘ छोटे, संक्षिप्त निर्देशों का उपयोग करना।
- ✔ स्पर्शीय चित्रों का उपयोग करना।
- ✘ सुसंगत भाषा, रंग संकेतों का उपयोग करना।
- ✘ सचित्र दृष्टांत का उपयोग करना।

Question Number : 192 Question Id : 97675521614 Question Type : MCQ Option Shuffling : Yes Is Question Mandatory : No Option Orientation : Vertical

Correct Marks : 1 Wrong Marks : 0.25

What is not the role of a regular classroom teacher in inclusive education?

Options :

- ✘ Provide varieties of options to motivate each child
- ✘ Encourage independent and small group work
- ✘ Ongoing assessment and student evaluation
- ✔ Developing individualized educational plan for disabled students.

Question Number : 192 Question Id : 97675521614 Question Type : MCQ Option Shuffling : Yes Is Question Mandatory : No Option Orientation : Vertical

Correct Marks : 1 Wrong Marks : 0.25

समावेशी शिक्षा में एक नियमित कक्षा शिक्षक की क्या भूमिका नहीं है?

Options :

- ✘ प्रत्येक बच्चे को प्रेरित करने के लिए विभिन्न प्रकार के विकल्प प्रदान करना।
- ✘ स्वतंत्र और छोटे समूह कार्यों को प्रोत्साहित करना।
- ✘ सतत मूल्यांकन और छात्र मूल्यांकन
- ✔ दिव्यांग छात्रों के लिए व्यक्तिगत शैक्षिक योजना तैयार करना।

Question Number : 193 Question Id : 97675521615 Question Type : MCQ Option Shuffling : Yes Is Question Mandatory : No Option Orientation : Vertical

Correct Marks : 1 Wrong Marks : 0.25

Which the following is TRUE for mainstreaming of mild mentally challenged students?

Options :

1. ✓ The other children will acquire better understanding of the nature of their disability
2. ✗ This will be stigmatizing and humiliating for other children
3. ✗ Mentally challenged children will feel segregation
4. ✗ The self-esteem of mentally challenged children will be low in regular classroom

Question Number : 193 Question Id : 97675521615 Question Type : MCQ Option Shuffling : Yes Is Question Mandatory : No Option Orientation : Vertical

Correct Marks : 1 Wrong Marks : 0.25

हल्के मानसिक रूप से विकलांग छात्रों को मुख्य धारा में लाने के लिए निम्नलिखित में से कौन सा सत्य है?

Options :

1. ✓ अन्य बच्चे उनकी विकलांगता की प्रकृति की बेहतर समझ प्राप्त करेंगे।
2. ✗ यह अन्य बच्चों के लिए कलंकित और अपमानजनक होगा।
3. ✗ मानसिक रूप से विकलांग बच्चे अलगाव महसूस करेंगे।
4. ✗ नियमित कक्षा में कम मानसिक रूप से विकलांग बच्चों का आत्म-सम्मान होगा।

Question Number : 194 Question Id : 97675521616 Question Type : MCQ Option Shuffling : Yes Is Question Mandatory : No Option Orientation : Vertical

Correct Marks : 1 Wrong Marks : 0.25

What is the physiological method of Seguin used for mentally challenged children?

Options :

1. ✗ Which stresses that children learn by doing
2. ✗ A teaching method based on the assumption that education should be enjoyable
3. ✓ An educational program stressing the training of the senses and motor training
4. ✗ A teaching method emphasizing practical knowledge

Question Number : 194 Question Id : 97675521616 Question Type : MCQ Option Shuffling : Yes Is Question Mandatory : No Option Orientation : Vertical

Correct Marks : 1 Wrong Marks : 0.25

मानसिक रूप से विकलांग बच्चों के लिए इस्तेमाल की जाने वाली सेगुइन की शारीरिक विधि क्या है?

Options :

1. ✗ यह इस बात पर बल देती है कि बच्चे कार्य करते हुए सीखते हैं।

2. ✘ एक अध्यापन पद्धति जो इस धारणा पर आधारित है कि शिक्षा सुखद होनी चाहिए।
3. ✔ इंद्रियों के प्रशिक्षण और मोटर प्रशिक्षण पर बल देने वाला एक शैक्षिक कार्यक्रम।
4. ✘ व्यावहारिक ज्ञान पर जोर देने वाली एक अध्यापन पद्धति।

Question Number : 195 Question Id : 97675521617 Question Type : MCQ Option Shuffling : Yes Is Question Mandatory : No Option Orientation : Vertical

Correct Marks : 1 Wrong Marks : 0.25

How parents can be benefitted by the partnership with teachers in inclusive education?

Options :

1. ✘ Educators acquire a better understanding of families
2. ✔ Parents increase, interaction with their disabled children
3. ✘ Parents can increase socio-economic status of their children.
4. ✘ Parents can get money from schools

Question Number : 195 Question Id : 97675521617 Question Type : MCQ Option Shuffling : Yes Is Question Mandatory : No Option Orientation : Vertical

Correct Marks : 1 Wrong Marks : 0.25

समावेशी शिक्षा में शिक्षकों के साथ साझेदारी से माता-पिता कैसे लाभान्वित हो सकते हैं?

Options :

1. ✘ शिक्षक परिवारों की बेहतर समझ हासिल करते हैं।
2. ✔ माता-पिता की अपने दिव्यांग बच्चों के साथ अन्तःक्रिया बढ़ती है।
3. ✘ माता-पिता अपने बच्चों की सामाजिक-आर्थिक स्थिति को बढ़ा सकते हैं।
4. ✘ माता-पिता को स्कूलों से पैसा मिल सकता है।

Question Number : 196 Question Id : 97675521618 Question Type : MCQ Option Shuffling : Yes Is Question Mandatory : No Option Orientation : Vertical

Correct Marks : 1 Wrong Marks : 0.25

What is the benefit of Co-taught classrooms?

Options :

1. ✔ Students have the opportunity to learn from two teachers having different teaching styles
2. ✘ One teacher can handle the whole class in better way

3. ✖ The teacher can punish the students
4. ✖ The teacher has to use lesser skills and knowledge in the classroom

Question Number : 196 Question Id : 97675521618 Question Type : MCQ Option Shuffling : Yes Is Question Mandatory : No Option Orientation : Vertical

Correct Marks : 1 Wrong Marks : 0.25

सह-शिक्षित (Co-taught) कक्षाओं का क्या लाभ है?

Options :

1. ✔ छात्रों को अलग-अलग शिक्षण शैली वाले दो शिक्षकों से सीखने का अवसर मिलता है।
2. ✖ एक शिक्षक पूरी कक्षा को बेहतर तरीके से संभाल सकता है।
3. ✖ शिक्षक छात्रों को दंडित कर सकता है।
4. ✖ शिक्षक को कक्षा में कम कौशल और ज्ञान का उपयोग करना पड़ता है।

Question Number : 197 Question Id : 97675521619 Question Type : MCQ Option Shuffling : Yes Is Question Mandatory : No Option Orientation : Vertical

Correct Marks : 1 Wrong Marks : 0.25

Which of the following is NOT the principle of rights-based approach?

Options :

1. ✖ Participation
2. ✔ Relativity
3. ✖ Equality
4. ✖ Empowerment.

Question Number : 197 Question Id : 97675521619 Question Type : MCQ Option Shuffling : Yes Is Question Mandatory : No Option Orientation : Vertical

Correct Marks : 1 Wrong Marks : 0.25

निम्नलिखित में से कौन सा, अधिकार आधारित दृष्टिकोण का सिद्धांत नहीं है?

Options :

1. ✖ सहभागिता
2. ✔ सापेक्षता
3. ✖ समानता

4. ✖ अधिकारित

Question Number : 198 Question Id : 97675521620 Question Type : MCQ Option Shuffling : Yes Is Question Mandatory : No Option Orientation : Vertical

Correct Marks : 1 Wrong Marks : 0.25

What is NOT a challenge in successful inclusion?

Options :

1. ✖ Infrastructural barrier
2. ✖ Negative attitude
3. ✔ Small size classes
4. ✖ Peer rejection

Question Number : 198 Question Id : 97675521620 Question Type : MCQ Option Shuffling : Yes Is Question Mandatory : No Option Orientation : Vertical

Correct Marks : 1 Wrong Marks : 0.25

सफल समावेशन में क्या चुनौती नहीं है?

Options :

1. ✖ संरचनात्मक बाधा
2. ✖ नकारात्मक रवैया
3. ✔ छोटे आकार की कक्षाएं
4. ✖ सहकर्मी (Peer) अस्वीकृति

Question Number : 199 Question Id : 97675521621 Question Type : MCQ Option Shuffling : Yes Is Question Mandatory : No Option Orientation : Vertical

Correct Marks : 1 Wrong Marks : 0.25

Which of the following is NOT the infrastructural intervention for successful inclusion?

Options :

1. ✖ Ramps in every school
2. ✖ Barrier free access in classroom
3. ✖ Provision of proper light
4. ✔ Ensure the community participation

Test

Prime

By Adda247

Previous Year Papers PDF

PRACTICE MORE, SCORE HIGHER!



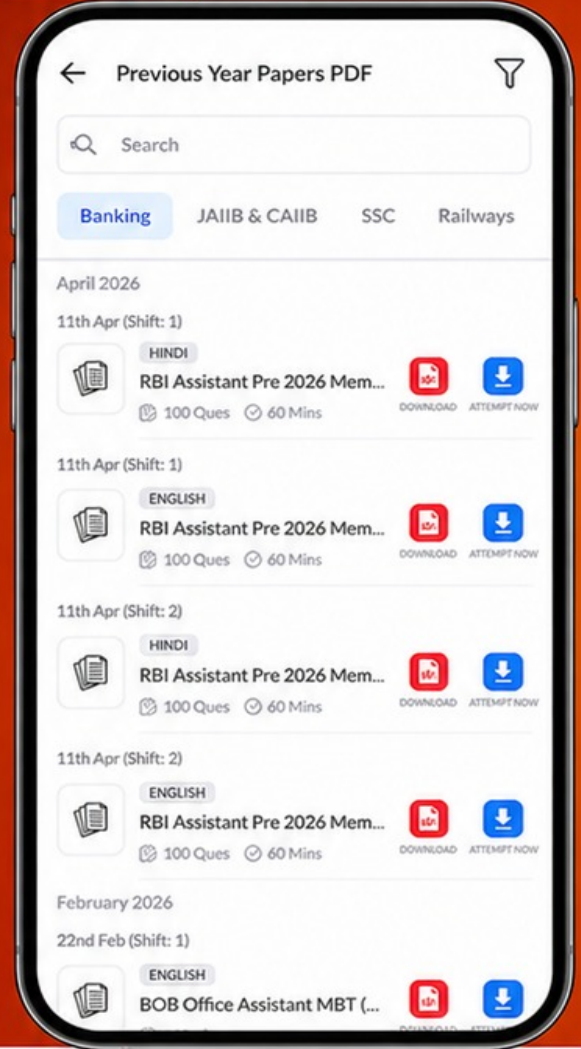
Free
25,000+
PDF's

High-Quality | Exam-Wise | Updated Regularly

ATTEMPT AS
MOCK



Turn PDFs into real exam experience.
Analyze. Improve. Succeed.



Topic-wise &
Exam-wise PDFs



Download &
Study Offline



Attempt as Mock
& Track Score



Smart Analysis
& Performance

AVAILABLE IN



Banking



SSC



Railway



Teaching



UGC



Agriculture



Nursing



Bihar



UP



Punjab



WB



Odisha



TN



AP & Telangana



Haryana



DOWNLOAD THE APP



Question Number : 199 Question Id : 97675521621 Question Type : MCQ Option Shuffling : Yes Is Question Mandatory : No Option Orientation : Vertical

Correct Marks : 1 Wrong Marks : 0.25

निम्नलिखित में से कौन सा, सफल समावेशन के लिए संरचनात्मक हस्तक्षेप नहीं है?

Options :

1. ✘ प्रत्येक विद्यालय में रैंप
2. ✘ कक्षा में बाधा मुक्त पहुंच
3. ✘ उचित प्रकाश की व्यवस्था
4. ✔ समुदायिक सहभागिता सुनिश्चित करना

Question Number : 200 Question Id : 97675521622 Question Type : MCQ Option Shuffling : Yes Is Question Mandatory : No Option Orientation : Vertical

Correct Marks : 1 Wrong Marks : 0.25

Which approach can develop positive attitude among students towards inclusive education?

Options :

1. ✔ Child to child approach
2. ✘ Child to teacher approach
3. ✘ Child to Parent approach
4. ✘ Structural approach

Question Number : 200 Question Id : 97675521622 Question Type : MCQ Option Shuffling : Yes Is Question Mandatory : No Option Orientation : Vertical

Correct Marks : 1 Wrong Marks : 0.25

समावेशी शिक्षा के प्रति छात्रों में कौन-सा दृष्टिकोण सकारात्मक रवैया विकसित कर सकता है?

Options :

1. ✔ बच्चे से बच्चे का दृष्टिकोण
2. ✘ बच्चे से शिक्षक का दृष्टिकोण
3. ✘ बच्चे से माता-पिता का दृष्टिकोण
4. ✘ संरचनात्मक दृष्टिकोण