

## Recruitment for Various Post 3rd Apr 2022

Participant ID	
Participant Name	
Test Center Name	Tikri Digital Zone
Test Date	03/04/2022
Test Time	9:00 AM - 12:00 PM
Subject	Store Keeper cum Clerk
Marks Obtained	85.25

## Section : General Intelligence

Q.1 संख्याओं के चार समूह दिए गए हैं, जिनमें से तीन किसी न किसी रूप में एक जैसे हैं और एक भिन्न है। उस समूह का चयन कीजिए जो भिन्न है।

- Ans  A. 6 : 42 : 126  
 B. 7 : 49 : 147  
 C. 2 : 14 : 42  
 D. 11 : 76 : 210

Question Type : MCQ  
Question ID : 4267781552  
Status : Answered  
Chosen Option : D  
Marks : 1

Q.2 केवल लड़कियों की 100 मीटर स्प्रिंट दौड़ में, विधि आशना से आगे है। रितु जिया के पीछे है जो आशना के पीछे है। मार्या आशना से आगे है लेकिन विधि से पीछे है। फरहा विधि से आगे हैं। उपरोक्त कथनों से निश्चित रूप से क्या निष्कर्ष निकाला जा सकता है?

- Ans  A. विधि इन में सबसे आगे हैं।  
 B. जिया मार्या से आगे है।  
 C. आशना, फरहा से आगे हैं।  
 D. रितु इन में सबसे पीछे है।

Question Type : MCQ  
Question ID : 4267781528  
Status : Answered  
Chosen Option : D  
Marks : 1

**Test  
Prime**

By Adda247

# ALL EXAMS, ONE SUBSCRIPTION



Test. Analyze. Improve. Repeat.



**Don't just *prepare*. *Perform*.**

Test Prime — built only for mock tests.



**1,50,000+**  
Mock Tests



**25,000+**  
Previous Year Papers



**800+**  
Exam Covered



**500% Refund**  
on Selection



**5 lakh+**  
Free Quizzes



**Daily**  
Free PDFs



**Job Alerts**  
Stay Updated

- Multilingual
- Detailed Solution
- Strong and Weak Areas



**All India  
Rankings**

Compete with lakhs.  
Rank. Improve. Repeat.



← Adda247 test prime

Rating ▾

Editors' choice

New



Adda247 Test Prime  
Adda Education • Education  
📌 Installed



**DOWNLOAD THE APP**



Q.3 अभिकथन (A) और कारण (R) के रूप में लेबल किए गए दो कथन दिए गए हैं। दोनों कथनों को ध्यानपूर्वक पढ़िए और दिए गए विकल्पों के आधार पर अपना उत्तर अंकित कीजिए।

अभिकथन (A) :

26 जनवरी को भारत के गणतंत्र दिवस के रूप में मनाया जाता है।

कारण (R) :

26 जनवरी 1950 को पहली निर्वाचित सरकार बनी थी।

- Ans
- A. A और R दोनों सत्य हैं और R, A की सही व्याख्या करता है।
  - B. A सत्य है और R असत्य है।
  - C. A असत्य है और R सत्य है।
  - D. A और R दोनों सत्य हैं और R, A की सही व्याख्या नहीं करता है।

Question Type : MCQ

Question ID : 4267781545

Status : Answered

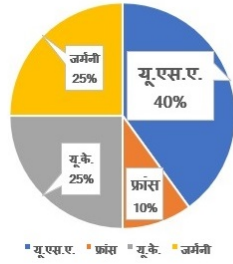
Chosen Option : D

Marks : -1/4

Q.4 नीचे दिया गया पाई-आरेख, एबीसी एक्सपोर्ट्स लिमिटेड द्वारा विभिन्न देशों को वस्त्र निर्यात के मूल्य संबंधी आंकड़े प्रदर्शित करता है।

यदि संयुक्त राज्य अमेरिका को कुल निर्यात 6 मिलियन अमरीकी डालर था, तो फ्रांस को निर्यात (अमरीकी डालर में) कितना होगा?

एबीसी एक्सपोर्ट्स द्वारा 2020-2021 में विभिन्न देशों के वस्त्र निर्यात का मूल्य



- Ans
- A. 2.4 मिलियन
  - B. 0.75 मिलियन
  - C. 1.5 मिलियन
  - D. 6.7 मिलियन

Question Type : MCQ

Question ID : 4267781555

Status : Answered

Chosen Option : C

Marks : 1

Q.5 निम्नलिखित चार अक्षर-समूहों में से तीन एक निश्चित तरीके से समान हैं और एक भिन्न है। असंगत का चयन कीजिए।

- Ans  A. HSJQ  
 B. NOKP  
 C. WDGT  
 D. YBEV

Question Type : MCQ

Question ID : 4267781544

Status : Answered

Chosen Option : B

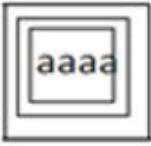
Marks : 1

Q.6 उस आकृति का चयन कीजिए जो निम्नलिखित श्रृंखला में प्रश्न चिह्न (?) को प्रतिस्थापित कर सकती है।



Ans

A.



B.



C.



D.



Question Type : MCQ

Question ID : 4267781538

Status : Answered

Chosen Option : B

Marks : 1

Q.7 तीन कथन, जिसके बाद दो निष्कर्ष I और II दिए गए हैं। कथनों को सत्य मानते हुए, भले ही वे सामान्य रूप से ज्ञात तथ्यों से भिन्न प्रतीत होते हों, तय करें कि कौन सा / से निष्कर्ष कथनों का तार्किक रूप से अनुसरण करता है / करते।

कथन:

1. सभी जोकर, क्लाउन हैं।
2. सभी क्लाउन, कलाबाज हैं।
3. कुछ जोकर, गायक हैं।

निष्कर्ष:

- I. कुछ कलाबाज गायक हैं।
- II. कुछ क्लाउन, जोकर हैं।

- Ans  A. निष्कर्ष I और II दोनों अनुसरण करते हैं
- B. केवल निष्कर्ष II अनुसरण करता है
- C. या तो निष्कर्ष I या II अनुसरण करता है
- D. केवल निष्कर्ष I अनुसरण करता है

Question Type : MCQ

Question ID : 4267781532

Status : Answered

Chosen Option : D

Marks : -1/4

Q.8

- Ans  A. 23 : 20
- B. 42 : 33
- C. 18 : 20
- D. 20 : 23

Question Type : MCQ

Question ID : 4267781548

Status : Answered

Chosen Option : A

Marks : 1

Q.9

- Ans  A. 6, 3, 5, 2, 4, 1, 7
- B. 3, 5, 2, 6, 4, 7, 1
- C. 3, 5, 2, 6, 4, 1, 7
- D. 6, 3, 5, 2, 1, 4, 7

Question Type : MCQ

Question ID : 4267781534

Status : Answered

Chosen Option : B

Marks : 1

Q.10 पांच अलग-अलग विषय विशेषज्ञों - A, B, C, D और E द्वारा, लेकिन जरूरी नहीं कि इसी क्रम में हो, एक छात्र के लिए सोमवार से शुक्रवार तक निम्नलिखित विषयों में ट्यूशन की व्यवस्था की गई है - गणित, लेखा, अर्थशास्त्र, अंग्रेजी और मनोविज्ञान। प्रति दिन केवल एक ट्यूशन निर्धारित है। शिक्षक 'E' सोमवार को कक्षा लेता है और शिक्षक 'C' शुक्रवार को कक्षा लेता है। ट्यूटर 'D' मंगलवार को 'अंग्रेजी' की कक्षा लेता है। ट्यूटर 'B' 'अर्थशास्त्र' पर कक्षा लेता है। शिक्षक 'A' गुरुवार को कक्षा लेता है लेकिन 'मनोविज्ञान' के लिए नहीं। सप्ताह की पहली कक्षा (सोमवार) 'गणित' की है। निम्नलिखित कथनों में से कौनसा सत्य नहीं है?

- Ans
- A. शिक्षक 'C' मनोविज्ञान पर कक्षा लेता है।
  - B. शिक्षक 'B' बुधवार को अर्थशास्त्र की कक्षा लेता है।
  - C. गुरुवार को लेखा की कक्षा है।
  - D. शिक्षक 'A' गुरुवार को अंग्रेजी की कक्षा लेता है।

Question Type : MCQ  
Question ID : 4267781530  
Status : Answered  
Chosen Option : D  
Marks : 1

Q.11

- Ans
- A. आकृति 2
  - B. आकृति 1
  - C. आकृति 4
  - D. आकृति 3

Question Type : MCQ  
Question ID : 4267781541  
Status : Answered  
Chosen Option : C  
Marks : 1

Q.12 एक निश्चित कूटभाषा में, 'MORAL' को 46913 के रूप में लिखा जाता है। उसी कूटभाषा में 'CLOWN' को कैसे लिखा जाएगा?

- Ans
- A. 32654
  - B. 33564
  - C. 33655
  - D. 34565

Question Type : MCQ  
Question ID : 4267781536  
Status : Answered  
Chosen Option : C  
Marks : 1

Q.13 एक कथन के बाद दो निष्कर्ष I और II दिए गए हैं। कथनों को सत्य मानते हुए, तय करें कि दिए गए निष्कर्षों में से कौन सा/से निश्चित रूप से सत्य है/हैं।

कथन :

$$R \geq T < F \leq Y = Z$$

निष्कर्ष :

I.  $F > R$

II.  $T < Y$

- Ans  A. केवल II सत्य है  
 B. न तो I न ही II सत्य है  
 C. केवल I सत्य है  
 D. I और II दोनों सत्य हैं

Question Type : MCQ

Question ID : 4267781533

Status : Answered

Chosen Option : D

Marks : -1/4

Q.14

- Ans  A.  
 B.  
 C.  
 D.

Question Type : MCQ

Question ID : 4267781542

Status : Answered

Chosen Option : D

Marks : 1

Q.15 उस संख्या का चयन कीजिए जो दी गई संख्या श्रृंखला में (?) को प्रतिस्थापित करेगी।

12, 15, 21, 30, 42, 57, ?

- Ans  A. 74  
 B. 78  
 C. 67  
 D. 75

Question Type : MCQ

Question ID : 4267781550

Status : Answered

Chosen Option : D

Marks : 1

Q.16 यदि दोनों तरफ या एक ही तरफ के दो पदों को आपस में बदल दिया जाए तो चिह्न (=) के दोनों ओर के दोनों व्यंजकों का मान समान होगा। आपस में बदलने के लिए सही पदों को खोजें।

$$4 \times 2 - 3 + 12 \div 7 = 1 \times 6 + 9 \div 3 - 3$$

- Ans
- A. 4, 9
  - B. 12, 9
  - C. 6, 4
  - D. 7, 6

Question Type : MCQ  
Question ID : 4267781554  
Status : Not Answered  
Chosen Option : --  
Marks : 0

Q.17 From the given options, select the word which is different from the other three words in some way.

- Ans
- A. Bronze
  - B. Tin
  - C. Copper
  - D. Iron

Question Type : MCQ  
Question ID : 4267781549  
Status : Answered  
Chosen Option : A  
Marks : 1

Q.18 एक निश्चित कूटभाषा में, 'STABLE' को WPZAHJ के रूप में लिखा जाता है। उसी कूटभाषा में 'HORSES' को कैसे लिखा जाएगा?

- Ans
- A. HWHJMG
  - B. TMJIWI
  - C. IWIJMT
  - D. IVIIMT

Question Type : MCQ  
Question ID : 4267781535  
Status : Not Answered  
Chosen Option : --  
Marks : 0

Q.19 Seven people are sitting in a movie theatre watching a movie. D is sitting right to A but left to G. Y is sitting right to C and left to A. Z is sitting left to F and is second from the right end. Who is sitting at the extreme left?

- Ans  A. F  
 B. D  
 C. Y  
 D. C

Question Type : MCQ  
Question ID : 4267781527  
Status : Answered  
Chosen Option : D  
Marks : 1

Q.20 निम्नलिखित चार अक्षर-समूहों में से तीन एक निश्चित तरीके से समान हैं और एक भिन्न है। असंगत का चयन कीजिए।

- Ans  A. SUY  
 B. MOS  
 C. CEH  
 D. GIM

Question Type : MCQ  
Question ID : 4267781543  
Status : Answered  
Chosen Option : C  
Marks : 1

Q.21 उस शब्द युग्म का चयन कीजिए जिसमें दोनों शब्द उसी प्रकार संबंधित हैं जिस प्रकार निम्नलिखित शब्द-युग्म में दोनों शब्द संबंधित हैं।

महीना : जून

- Ans  A. ऋतु : शीत ऋतु  
 B. सप्ताह : वर्ष  
 C. ग्रीष्म ऋतु : पतझड़  
 D. वर्ष : शताब्दी

Question Type : MCQ  
Question ID : 4267781551  
Status : Answered  
Chosen Option : A  
Marks : 1

Q.22 E, F, G, H, I, J, K and L are sitting around a circular table facing the center in clockwise manner in the same sequence at equal distances from each other. Then H and J interchange their positions. If F is facing South-east then in which direction is J facing now?

- Ans  A. North-West  
 B. South  
 C. South-West  
 D. North

Question Type : MCQ  
 Question ID : 4267781526  
 Status : Answered  
 Chosen Option : C  
 Marks : -1/4

Q.23 एक कथन दिया गया है जिसके बाद दो कार्यवाही कथन I और II हैं। आपको कथन में दी गई हर बात को सत्य मानना है, फिर तय करना है कि दिए गए सुझावों में से कौन सी कार्यवाही, तार्किक रूप से अनुसरण करती है।

कथन :

"कैप्सूल आधारित विटामिन संपूरकों का मानव शरीर पर ताजे फलों और सब्जियों के विटामिन की तुलना में समान प्रभाव नहीं होता है।" - एक रिपोर्ट

कार्यवाहियाँ :

- I. कैप्सूल आधारित विटामिन की बिक्री पर प्रतिबंध लगाया जाना चाहिए।  
 II. मानव शरीर की दैनिक विटामिन आवश्यकताओं को पूरा करने के लिए लोगों को ताजे फल और सब्जियां लेने के लिए प्रोत्साहित किया जाना चाहिए।

- Ans  A. केवल कार्यवाही II अनुसरण करती है।  
 B. न तो कार्यवाही I न ही कार्यवाही II अनुसरण करती है।  
 C. कार्यवाहियाँ I और II दोनों अनुसरण करती हैं।  
 D. केवल कार्यवाही I अनुसरण करती है।

Question Type : MCQ  
 Question ID : 4267781547  
 Status : Answered  
 Chosen Option : A  
 Marks : 1

Q.24 Afsan leaves his house and moves 48 m in North-West direction and then 48 m in South-East direction. Next, he moves 50 m in South-West direction. Then he moves 50 m in North East direction. How far away is he from his house?

- Ans  A. 15 m  
 B. 20 m  
 C. 10 m  
 D. 0 m

Question Type : MCQ  
 Question ID : 4267781537  
 Status : Answered  
 Chosen Option : D  
 Marks : 1

Q.25

- Ans  A.  
 B.  
 C.  
 D.

Question Type : MCQ  
 Question ID : 4267781540  
 Status : Answered  
 Chosen Option : A  
 Marks : 1

Q.26 एक कथन के बाद दो अभिधारणाएं I और II हैं। कथन पर विचार करें और तय करें कि दी गई अभिधारणाओं में से कौन सा/से कथन में निहित है/ हैं।

कथन:

"भारत में सबसे कम साक्षरता दर बिहार में है।" - हाल की जनगणना रिपोर्ट।

अभिधारणाएं:

- I. राज्य में महिला साक्षरता दर सबसे कम है।  
 II. राज्य में सबसे अधिक अशिक्षित वयस्क जनसंख्या है।

- Ans  A. दोनों अनुमान निहित हैं  
 B. न तो अनुमान I न ही II निहित है  
 C. केवल अनुमान I निहित है  
 D. केवल अनुमान II निहित है

Question Type : MCQ  
 Question ID : 4267781546  
 Status : Answered  
 Chosen Option : D  
 Marks : -1/4

Q.27 गणितीय चिह्नों के उस सही संयोजन का चयन कीजिए जो \* चिह्नों को प्रतिस्थापित करके निम्नलिखित समीकरण को संतुलित कर सकता है।

$$8 * (2 * 12 * 4) * 9 * 11$$

- Ans  A.  $-x \div +=$   
 B.  $+ - x \div =$   
 C.  $+ x \div - =$   
 D.  $\div - x + =$

Question Type : MCQ  
 Question ID : 4267781553  
 Status : Answered  
 Chosen Option : A  
 Marks : 1

Q.28 एक कार्यालय भवन में आठ मंज़िलें हैं। दूसरी, पांचवीं और छठी मंज़िलें 'आईटी विभाग' के पास है। 'आईटी विभाग' की दो मंज़िलें, मार्केटिंग विभाग की दो मंज़िलों के बीच हैं। 'आईटी विभाग' की एक मंज़िल 'एचआर विभाग' की दो मंज़िलों के बीच है। लेखा विभाग के ठीक नीचे की मंज़िल में मार्केटिंग विभाग है। पहली मंज़िल पर कौन सा विभाग है?

- Ans  A. आईटी  
 B. मार्केटिंग  
 C. लेखा  
 D. एचआर

Question Type : MCQ  
Question ID : 4267781531  
Status : Answered  
Chosen Option : D  
Marks : 1

Q.29

- Ans  A.  
 B.  
 C.  
 D.

Question Type : MCQ  
Question ID : 4267781539  
Status : Answered  
Chosen Option : C  
Marks : 1

Q.30 कौन सा वेन आरेख निम्न के बीच संबंध को सबसे अच्छा दर्शाता है:

मांसाहारी, हिरण, ज़ेबरा, तेंदुआ

- Ans  A.  
 B.  
 C.  
 D.

Question Type : MCQ  
Question ID : 4267781529  
Status : Answered  
Chosen Option : A  
Marks : 1

Q.1 नवंबर में आयोजित टाटा लिटरेचर लाइव अवार्ड्स 2021 में कथा साहित्य श्रेणी में \_\_\_\_\_ द्वारा "अशोकः ए सूत्र" ने बुक ऑफ द ईयर पुरस्कार जीता।

- Ans
- A. कविता अय्यर
  - B. रिजुला दास
  - C. इरविन एलन सीली
  - D. गज़ाला वहाब

Question Type : MCQ  
Question ID : 4267781569  
Status : Not Answered  
Chosen Option : --  
Marks : 0

Q.2 वित्त वर्ष 2021 में सकल मूल्य वर्धित (GVA) विकास की दर \_\_\_\_\_ पर आंकी गई, जबकि वित्त वर्ष 2020 में यह 3.9% थी।

- Ans
- A. 6.2%
  - B. 5.2%
  - C. 4.2%
  - D. 7.2%

Question Type : MCQ  
Question ID : 4267781572  
Status : Not Answered  
Chosen Option : --  
Marks : 0

Q.3 2011 में भारत की माधिका आयु लगभग 24.9 वर्ष थी। 2036 में भारत की अनुमानित माधिका आयु क्या है?

- Ans
- A. 34.7
  - B. 39
  - C. 32
  - D. 37

Question Type : MCQ  
Question ID : 4267781557  
Status : Not Answered  
Chosen Option : --  
Marks : 0

Q.4 कंटेंट निर्माता और अभिनेत्री \_\_\_\_\_, मानसिक स्वास्थ्य, बालिका शिक्षा और महिलाओं के अधिकारों के प्रति उनके योगदान के कारण भारत की पहली संयुक्त राष्ट्र विकास कार्यक्रम (UNDP) युवा जलवायु चैंपियन बनीं।

- Ans
- A. रागिनी द्विवेदी
  - B. पार्वती नायर
  - C. गौरी नंदा
  - D. प्राजक्ता कोलि

Question Type : MCQ  
Question ID : 4267781556  
Status : Not Answered  
Chosen Option : --  
Marks : 0

Q.5 निम्नलिखित में से कौन-सा, एक मध्य पुरापाषाण युग का महत्वपूर्ण स्थल है?

- Ans
- A. गिलुंड
  - B. मालवा
  - C. अहर
  - D. भीमबेटका

Question Type : MCQ  
Question ID : 4267781566  
Status : Answered  
Chosen Option : D  
Marks : 1

Q.6 इसरो ने 14 जनवरी, 2022 को गगनयान रॉकेट के लिए \_\_\_\_\_ इंजन का सफलतापूर्वक परीक्षण किया।

- Ans
- A. पेरिजेनिक
  - B. क्रिप्टोजेनिक
  - C. क्रायोजेनिक
  - D. सायोजेनिक

Question Type : MCQ  
Question ID : 4267781581  
Status : Not Answered  
Chosen Option : --  
Marks : 0

Q.7 जब एक प्याज को काटा जाता है तो प्याज की कोशिकाएं \_\_\_\_\_ छोड़ती हैं जो आंखों की लैक्रिमल ग्रंथियों को आंसू निकालने के लिए उत्तेजित करती है।

- Ans
- A. फॉस्फोरस पेंटॉक्साइड
  - B. सल्फर ट्रायऑक्साइड
  - C. सल्फोनीलीडीनऑक्सीडेन
  - D. सिन-प्रोपेनेथियल-एस-ऑक्साइड

Question Type : MCQ  
Question ID : 4267781584  
Status : Not Answered  
Chosen Option : --  
Marks : 0

Q.8 वित्त वर्ष 2021-22 में भारत के वास्तविक सकल घरेलू उत्पाद में 11.0% की वृद्धि दर्ज की जाएगी और नॉमिनल सकल घरेलू उत्पाद \_\_\_\_\_ तक बढ़ेगा जो स्वतंत्रता के बाद से सबसे अधिक है।

- Ans
- A. 19.4%
  - B. 18.4%
  - C. 12.4%
  - D. 15.4%

Question Type : MCQ  
Question ID : 4267781574  
Status : Not Answered  
Chosen Option : --  
Marks : 0

Q.9 संथाली कुछ राज्यों में बोली जाने वाली एक आधिकारिक भाषा है। निम्नलिखित में से कौन-सा, उनमें से एक नहीं है?

- Ans  A. सिक्किम  
 B. पश्चिम बंगाल  
 C. ओडिशा  
 D. झारखंड

Question Type : MCQ  
Question ID : 4267781567  
Status : Answered  
Chosen Option : A  
Marks : 1

Q.10 दिल्ली के मुख्यमंत्री अरविंद केजरीवाल ने 17 जनवरी 2022 को दिल्ली परिवहन निगम की पहली इलेक्ट्रिक बस को हरी झंडी दिखाकर रवाना किया, यह शून्य-उत्सर्जन, शोर-रहित वाहन है जो एक बार चार्ज करने पर कम से कम \_\_\_\_\_ किलोमीटर की दूरी तय कर सकते हैं।

- Ans  A. 310  
 B. 120  
 C. 135  
 D. 220

Question Type : MCQ  
Question ID : 4267781563  
Status : Not Answered  
Chosen Option : --  
Marks : 0

Q.11 निम्नलिखित में से कौन-सी अंडमान द्वीप समूह की सबसे ऊँची चोटी है?

- Ans  A. थुलियर  
 B. माउंट नॉर्थ अंडमान  
 C. हेरिएट  
 D. सैडल

Question Type : MCQ  
Question ID : 4267781576  
Status : Not Answered  
Chosen Option : --  
Marks : 0

Q.12 "महिलाओं के एक काल्पनिक समूह के बच्चों की औसत संख्या उनकी प्रजनन अवधि के अंत में होगी यदि वे अपने पूरे जीवन के दौरान एक निश्चित अवधि की प्रजनन दर के अधीन थीं और यदि वे मृत्यु दर के अधीन नहीं थीं" इसे किस रूप में जाना जाता है?

- Ans
- A. प्रजनन दर
  - B. जन्म दर
  - C. कुल प्रजनन दर
  - D. अनुमानित जन्म दर

Question Type : MCQ  
Question ID : 4267781578  
Status : Not Answered  
Chosen Option : --  
Marks : 0

Q.13 निम्नलिखित में से कौन-सी, पशु ऊतक में वसायुक्त अम्ल के संश्लेषण की साइट है?

- Ans
- A. गॉलजी एपरेटस
  - B. लीवर (यकृत)
  - C. डुओडेनम (ग्रहणी)
  - D. राइबोसोम

Question Type : MCQ  
Question ID : 4267781583  
Status : Answered  
Chosen Option : A  
Marks : -1/4

Q.14 Which rocks form when they are subjected to "high heat, high pressure, hot mineral-rich fluids or, more commonly, some combination of these factors"?

- Ans
- A. Sedimentary rocks
  - B. Metamorphic rocks
  - C. Fossilized rocks
  - D. Igneous rocks

Question Type : MCQ  
Question ID : 4267781580  
Status : Answered  
Chosen Option : D  
Marks : -1/4

Q.15 जनवरी 2022 में, भारत सरकार ने विभिन्न राज्य सरकारों द्वारा महसूस की जाने वाली IAS अधिकारियों की कमी को दूर करने के लिए IAS (कैडर) नियम, 1954 के \_\_\_\_\_ में संशोधन करने का प्रस्ताव दिया है।

- Ans
- A. नियम 2
  - B. नियम 4
  - C. नियम 7
  - D. नियम 6

Question Type : MCQ  
Question ID : 4267781561  
Status : Not Answered  
Chosen Option : --  
Marks : 0

Q.16 \_\_\_\_\_ योजना तेलंगाना सरकार द्वारा जनवरी 2022 में शुरू की गई थी जो माँ और बच्चे के लिए एक कल्याणकारी योजना है।

- Ans  A. KCR किट योजना  
 B. RJL किट योजना  
 C. ACL किट योजना  
 D. HML किट योजना

Question Type : MCQ  
Question ID : 4267781562  
Status : Not Answered  
Chosen Option : --  
Marks : 0

Q.17 वित्त वर्ष 2021 में भारत का चालू खाता अधिशेष सकल घरेलू उत्पाद का 2% होने की उम्मीद है, जो \_\_\_\_\_ वर्षों के बाद एक ऐतिहासिक उच्च है।

- Ans  A. 17  
 B. 10  
 C. 16  
 D. 12

Question Type : MCQ  
Question ID : 4267781570  
Status : Not Answered  
Chosen Option : --  
Marks : 0

Q.18 शिंदे और अंग्रेजों के बीच \_\_\_\_\_ में ग्वालियर की संधि पर हस्ताक्षर किए गए थे।

- Ans  A. 1745  
 B. 1790  
 C. 1855  
 D. 1817

Question Type : MCQ  
Question ID : 4267781565  
Status : Not Answered  
Chosen Option : --  
Marks : 0

Q.19 भारत सरकार द्वारा विकलांग व्यक्तियों (PWD) के सशक्तिकरण को बढ़ावा देने के लिए \_\_\_\_\_ राज्य को सर्वश्रेष्ठ राज्य पुरस्कार से सम्मानित किया गया।

- Ans  A. आंध्र प्रदेश  
 B. महाराष्ट्र  
 C. केरल  
 D. तमिलनाडु

Question Type : MCQ  
Question ID : 4267781577  
Status : Not Answered  
Chosen Option : --  
Marks : 0

Q.20 2019-20 में, भारत का सकल घरेलु उत्पाद ₹146 ट्रिलियन था, लेकिन 2020-21 में कोविड व्यवधान के कारण गिरकर \_\_\_\_\_ ट्रिलियन हो गया।

- Ans  A. 130  
 B. 110  
 C. 135  
 D. 125

Question Type : MCQ  
Question ID : 4267781573  
Status : Not Answered  
Chosen Option : --  
Marks : 0

Q.21 निम्नलिखित में से कौन-सा राज्य 2021 में कॉफी का सबसे बड़ा उत्पादक था?

- Ans  A. केरल  
 B. कर्नाटक  
 C. असम  
 D. ओडिशा

Question Type : MCQ  
Question ID : 4267781579  
Status : Answered  
Chosen Option : B  
Marks : 1

Q.22 क्षेत्रफल के आधार पर विश्व में भारत का स्थान \_\_\_\_\_ है।

- Ans  A. 9 वां  
 B. 7 वां  
 C. 11 वां  
 D. 13 वां

Question Type : MCQ  
Question ID : 4267781575  
Status : Answered  
Chosen Option : B  
Marks : 1

Q.23 उस कंपनी का नाम बताइए, जिसकी कोरोनावायरस वैक्सीन विकास और अनुमोदन प्रक्रिया नैदानिक परीक्षणों, परीक्षण नैतिकता, डेटा गुणवत्ता और प्रभावकारिता के संबंध में समस्याओं से ग्रस्त रही है।

- Ans  A. मॉडर्ना  
 B. एस्ट्राजेनेका  
 C. भारत बायोटेक  
 D. नोवोवैक्स

Question Type : MCQ  
Question ID : 4267781560  
Status : Answered  
Chosen Option : D  
Marks : -1/4

Q.24 स्वतंत्र भारत के पहले वित्त मंत्री, \_\_\_\_\_ ने 26 नवंबर 1947 को संसद में देश का पहला केंद्रीय बजट पेश किया।

- Ans  A. आर. के. शनमुखम चेट्टी  
 B. जसवंत सिंह  
 C. डॉ. सी. डी. देशमुख  
 D. सचिन चौधरी

Question Type : MCQ  
 Question ID : 4267781571  
 Status : Answered  
 Chosen Option : A  
 Marks : 1

Q.25 केरल और ब्राजील के शोधकर्ताओं की एक टीम ने \_\_\_\_\_ नामक एक दुर्लभ, गहरे समुद्र में रहने वाले मोलस्क की एक नई प्रजाति की पहचान की है।

- Ans  A. कोक्विना क्लैम (Coquina clam)  
 B. जीनस नुकुलाना (Genus nukulana)  
 C. गैपर क्लैम्स (Gaper clams)  
 D. जाइलोफगानंदानी (Xylophaganandani)

Question Type : MCQ  
 Question ID : 4267781585  
 Status : Not Answered  
 Chosen Option : --  
 Marks : 0

Q.26 के. सिवन की जगह इसरो के नए अध्यक्ष के रूप में नियुक्त रॉकेट वैज्ञानिक का नाम बताइए।

- Ans  A. एस. सोमनाथ  
 B. के. राधाकृष्णन  
 C. शैलेश नायक  
 D. ए. एस. किरण कुमार

Question Type : MCQ  
 Question ID : 4267781559  
 Status : Not Answered  
 Chosen Option : --  
 Marks : 0

Q.27 भारत में सबसे पहले अक्टूबर 2020 में निम्नलिखित में से किस कोरोनावायरस वेरिएंट का पता चला था?

- Ans  A. डेल्टा  
 B. गामा  
 C. बीटा  
 D. लैम्ब्डा

Question Type : MCQ  
 Question ID : 4267781582  
 Status : Answered  
 Chosen Option : A  
 Marks : 1

Q.28 उस निजी दूरसंचार ऑपरेटर का नाम बताइए, जिसकी जनवरी 2022 में भारत सरकार सबसे बड़ी शेयरधारक बन गई।

- Ans  A. रिलायंस जियो  
 B. भारती एयरटेल  
 C. वोडाफोन आइडिया  
 D. टाटा टेलिकम्युनिकेशन

Question Type : MCQ  
Question ID : 4267781558  
Status : Answered  
Chosen Option : B  
Marks : -1/4

Q.29 भारत विश्व की चार प्रमुख धार्मिक परंपराओं का जन्मस्थान है, निम्न में से कौन-सा, इसमें से एक नहीं है?

- Ans  A. बौद्ध धर्म  
 B. जैन धर्म  
 C. हिन्दू धर्म  
 D. पारसी धर्म

Question Type : MCQ  
Question ID : 4267781568  
Status : Answered  
Chosen Option : D  
Marks : 1

Q.30 1799 में अंग्रेजों द्वारा मैसूर पर कब्जा कर लिया गया था जब टीपू सुल्तान चौथे एंग्लो-मैसूर युद्ध में अंग्रेजों से लड़ते हुए \_\_\_\_\_ में मारे गए थे।

- Ans  A. श्रीरंगपट्टनम  
 B. आरा  
 C. मुंगेर  
 D. दरभंगा

Question Type : MCQ  
Question ID : 4267781564  
Status : Answered  
Chosen Option : A  
Marks : 1

Q.1 राम एक कार्य को 12 दिन में कर सकता है और मोहन उसी कार्य को 15 दिन में कर सकता है। दोनों ने 4 दिन तक एक साथ कार्य किया। कार्य का कितना हिस्सा शेष बचा होगा?

- Ans
- A.
  - B.
  - C.
  - D.

Question Type : MCQ  
Question ID : 4267781613  
Status : Answered  
Chosen Option : C  
Marks : 1

Q.2 एक कस्बे की जनसंख्या में प्रतिवर्ष 3% की वृद्धि होती है। दूसरे वर्ष के अंत में जनसंख्या 312456 है। प्रथम वर्ष के प्रारंभ में जनसंख्या ज्ञात कीजिए। (निकटतम पूर्ण संख्या तक पूर्णांकित)।

- Ans
- A. 293870
  - B. 294008
  - C. 294520
  - D. 294302

Question Type : MCQ  
Question ID : 4267781607  
Status : Answered  
Chosen Option : C  
Marks : 1

Q.3 एक मोटर कार 60 km/h की चाल से चलना शुरू करती है, जिसकी चाल प्रत्येक दो घंटे में 10 km/h बढ़ जाती है। कार द्वारा 540 km की दूरी तय करने में कितने घंटे का समय लगेगा?

- Ans
- A.
  - B.
  - C.
  - D.

Question Type : MCQ  
Question ID : 4267781594  
Status : Answered  
Chosen Option : A  
Marks : 1

Q.4

- Ans
- A. 20%
  - B. 22%
  - C. 21%
  - D. 23%

Question Type : MCQ  
Question ID : 4267781599  
Status : Not Answered  
Chosen Option : --  
Marks : 0

Q.5

Ans  A. 112 B. 84 C. 106 D. 98

Question Type : MCQ

Question ID : 4267781596

Status : Answered

Chosen Option : A

Marks : 1

Q.6 एक नाव को धारा की दिशा में बिंदु A से बिंदु B तक जाने तथा बिंदु A और बिंदु B के ठीक मध्य में स्थित बिंदु C तक वापस आने में 14 घंटे का समय लगता है। यदि धारा की चाल 4 km/h है, और शांत जल में नाव की चाल 12 km/h है, तो बिंदु A और बिंदु B के बीच की दूरी कितनी है?

Ans  A. 145 km B. 208 km C. 112 km D. 224 km

Question Type : MCQ

Question ID : 4267781611

Status : Answered

Chosen Option : D

Marks : -1/4

Q.7 निम्नलिखित संख्याओं में से कौन सी 72 से पूर्णतः विभाज्य है?

Ans  A. 24150 B. 22644 C. 25928 D. 17712

Question Type : MCQ

Question ID : 4267781587

Status : Answered

Chosen Option : D

Marks : 1

Q.8 140 m और 160 m लंबाई वाली दो रेलगाड़ियां क्रमशः 72 km/h और 54 km/h की चाल से एक ही दिशा में चल रही हैं। पहली रेलगाड़ी, दूसरी रेलगाड़ी को कितने समय में पूर्णतया पार कर लेगी?

Ans  A. 1 मिनट 04 सेकंड B. 48 सेकंड C. 1 मिनट D. 54 सेकंड

Question Type : MCQ

Question ID : 4267781610

Status : Answered

Chosen Option : C

Marks : 1

Q.9 मीरा अपनी आय का 80% हिस्सा व्यय करती है। उसकी आय में 20% की वृद्धि होने पर, उसने अपने व्यय में 10% की वृद्धि करने का निर्णय लिया। उसकी बचत में हुई वृद्धि का प्रतिशत ज्ञात कीजिए।

- Ans
- A. 45%
  - B. 50%
  - C. 60%
  - D. 40%

Question Type : MCQ  
Question ID : 4267781598  
Status : Answered  
Chosen Option : C  
Marks : 1

Q.10 एक विशेष बिल पर 35% की एकल छूट और 20% की दो क्रमिक छूटों का अंतर ₹45 था। बिल की धनराशि ज्ञात कीजिए।

- Ans
- A. ₹4,500
  - B. ₹9,000
  - C. ₹2,250
  - D. ₹5,400

Question Type : MCQ  
Question ID : 4267781602  
Status : Answered  
Chosen Option : A  
Marks : 1

Q.11 1500 km की एक हवाई यात्रा में एक विमान, खराब मौसम के कारण धीमा हो गया। यात्रा के दौरान इसकी औसत चाल में 250 km/h की कमी हो गई और उड़ान की समयावधि में एक घंटे की वृद्धि हो गई। उड़ान की मूल अवधि कितनी थी?

- Ans
- A. 3 घंटे
  - B. 2 घंटे
  - C. 1.5 घंटे
  - D. 2.5 घंटे

Question Type : MCQ  
Question ID : 4267781609  
Status : Answered  
Chosen Option : B  
Marks : 1

Q.12 यदि 15 पुरूष, 8 घंटे प्रतिदिन कार्य करते हुए, एक कमरे को 16 दिन में पेंट कर सकते हैं, तो 24 आदमी 7.5 घंटे प्रतिदिन कार्य करते हुए उसी कमरे को कितने दिन में पेंट कर लेंगे?

- Ans  A.  
 B.  
 C.  
 D.

Question Type : MCQ  
Question ID : 4267781605  
Status : Answered  
Chosen Option : B  
Marks : 1

Q.13 200 m की एक दौड़ में, जया ने यह दूरी 54 सेकंड में और माया ने 63 सेकंड में तय की। इस दौड़ में, जया ने माया को \_\_\_\_\_ (एक दशमलव स्थान तक पूर्णांकित) से हराया।

- Ans  A. 25.7 m  
 B. 26.1 m  
 C. 27.2 m  
 D. 28.6 m

Question Type : MCQ  
Question ID : 4267781612  
Status : Not Answered  
Chosen Option : --  
Marks : 0

Q.14

- Ans  A. 13  
 B. 5  
 C. 12  
 D. 7

Question Type : MCQ  
Question ID : 4267781586  
Status : Answered  
Chosen Option : B  
Marks : 1

Q.15

- Ans  A. 8 : 13 : 15  
 B. 18 : 20 : 25  
 C. 4 : 7 : 9  
 D. 45 : 48 : 100

Question Type : MCQ  
Question ID : 4267781604  
Status : Answered  
Chosen Option : D  
Marks : 1

Q.16 4% वार्षिक साधारण ब्याज की दर पर 2 वर्ष में देय ₹1,150 की धनराशि का वर्तमान मूल्य कितना होगा?

- Ans  A. ₹1,228  
 B. ₹1,242  
 C. ₹1,196  
 D. ₹1,184

Question Type : MCQ  
Question ID : 4267781606  
Status : Answered  
Chosen Option : B  
Marks : 1

Q.17 एक चुनाव में, 24% मतदाताओं ने उम्मीदवार A के पक्ष में मतदान किया और शेष मतदाताओं में से 70% ने उम्मीदवार B के पक्ष में मतदान किया। शेष मतदाताओं ने मतदान नहीं किया। यदि 80712 लोगों ने मतदान नहीं किया, तो उम्मीदवार B को कितने मत प्राप्त हुए?

- Ans  A. 212497  
 B. 121430  
 C. 156082  
 D. 188328

Question Type : MCQ  
Question ID : 4267781597  
Status : Answered  
Chosen Option : C  
Marks : -1/4

Q.18 एक व्यक्ति ने 5% वार्षिक चक्रवृद्धि ब्याज की दर पर ₹6,560 का एक ऋण लिया, जिसे 2 वर्ष में, दो समान किश्तों में चुकता किया जाना था। प्रत्येक किश्त की धनराशि ज्ञात कीजिए?

- Ans  A. ₹3,498  
 B. ₹3,258  
 C. ₹3,528  
 D. ₹3,948

Question Type : MCQ  
Question ID : 4267781608  
Status : Not Answered  
Chosen Option : --  
Marks : 0

Q.19 एक विक्रेता अंकित मूल्य को ₹320 कम करने के पश्चात भी 15% लाभ अर्जित करता है। यदि क्रय मूल्य ₹3,980 हो, तो किसी वस्तु को अंकित मूल्य पर बेचने पर उसे कितने प्रतिशत लाभ प्राप्त होगा (निकटतम पूर्ण संख्या तक पूर्णांकित)?

- Ans  A. 21%  
 B. 23%  
 C. 20%  
 D. 24%

Question Type : MCQ  
Question ID : 4267781601  
Status : Not Answered  
Chosen Option : --  
Marks : 0

Q.20 शुगर ने 12% के लाभ पर अपने 2 पंखे, अपने मित्र साल्ट को बेचे। साल्ट ने एक पंखे को 5% के लाभ पर और दूसरे को 4% की हानि पर बेचा। साल्ट को कुल ₹7 का लाभ प्राप्त हुआ। शुगर के लिए पंखे का क्रय मूल्य कितना था?

- Ans  A. ₹620  
 B. ₹640  
 C. ₹625  
 D. ₹650

Question Type : MCQ  
Question ID : 4267781600  
Status : Not Answered  
Chosen Option : --  
Marks : 0

Q.21

- Ans  A.  
 B.  
 C.  
 D.

Question Type : MCQ  
Question ID : 4267781589  
Status : Answered  
Chosen Option : D  
Marks : 1

Q.22 तीन विभिन्न बिंदुओं पर लगी ट्रैफिक लाइटें प्रत्येक 20, 32 और 48 सेकंड में परिवर्तित होती है। यदि वे सभी 9 a.m. बजे एक साथ बदलती हैं, तो वे फिर कितने बजे एक साथ बदलेंगी?

- Ans  A. 9:06:40 a.m.  
 B. 9:04:30 a.m.  
 C. 9:08:00 a.m.  
 D. 9:10:20 a.m.

Question Type : MCQ  
Question ID : 4267781590  
Status : Answered  
Chosen Option : C  
Marks : 1

Q.23

- Ans  A. 2.01  
 B. 0.91  
 C. 1.11  
 D. 0.93

Question Type : MCQ  
Question ID : 4267781588  
Status : Answered  
Chosen Option : C  
Marks : 1

Q.24 एक डिपार्टमेंटल स्टोर के सभी कर्मचारियों का औसत वेतन ₹8,400 था। यदि 4 प्रबंधकों का औसत वेतन ₹10,000 हो, 6 ऑफिस स्टाफ का औसत वेतन ₹9,000 हो, और शेष सहायकों का औसत वेतन ₹6,400 हो, तो उस डिपार्टमेंटल स्टोर में कर्मचारियों की कुल संख्या ज्ञात कीजिए।

- Ans  A. 13  
 B. 14  
 C. 15  
 D. 12

Question Type : MCQ  
Question ID : 4267781593  
Status : Not Answered  
Chosen Option : --  
Marks : 0

Q.25

- Ans  A. 30 घंटे  
 B. 36 घंटे  
 C. 30 मिनट  
 D. 3 घंटे

Question Type : MCQ  
Question ID : 4267781614  
Status : Answered  
Chosen Option : B  
Marks : 1

Q.26 8 संख्याओं का औसत 7 है। प्रत्येक संख्या को 3 से गुणा करने पर प्राप्त संख्याओं के नए समूह का औसत कितना होगा?

- Ans  A. 21  
 B. 15  
 C. 7  
 D. 10

Question Type : MCQ  
Question ID : 4267781592  
Status : Answered  
Chosen Option : A  
Marks : 1

Q.27 X, Y और Z ने एक साझेदारी प्रारंभ की और क्रमशः ₹54,000, ₹72,000 और ₹81,000 का निवेश किया। 4 माह पश्चात, Y व्यवसाय से सेवानिवृत्त हो गया। यदि वर्ष के अंत में, Z ने ₹1,35,000 का लाभ अर्जित किया हो, तो Y को प्राप्त लाभ कितना होगा?

- Ans  A. ₹35,500  
 B. ₹67,500  
 C. ₹53,000  
 D. ₹40,000

Question Type : MCQ  
Question ID : 4267781603  
Status : Answered  
Chosen Option : D  
Marks : 1

Q.28 एक माली ने अपने बाग में रोपित करने के लिए कुछ पौधे खरीदे। जब उसने प्रत्येक पंक्ति में 12 के हिसाब से पंक्तियां बनाई तो 9 पौधे शेष बचे। जब उसने प्रत्येक पंक्ति में 16 के हिसाब से पंक्तियां बनाई तो 13 पौधे शेष बचे। जब उसने प्रत्येक पंक्ति में 21 के हिसाब से पंक्तियां बनाई तो 18 पौधे शेष बचे। माली द्वारा खरीदे गए पौधों की न्यूनतम संख्या ज्ञात कीजिए।

- Ans  A. 336  
 B. 342  
 C. 333  
 D. 339

Question Type : MCQ  
Question ID : 4267781591  
Status : Answered  
Chosen Option : D  
Marks : -1/4

Q.29

- Ans  A. 26 घंटे  
 B. 24 घंटे  
 C. 30 घंटे  
 D. 32 घंटे

Question Type : MCQ  
Question ID : 4267781615  
Status : Answered  
Chosen Option : C  
Marks : 1

Q.30 एक व्यापारी ने ₹90/kg और ₹70/kg मूल्य वाले चावल की दो किस्मों को एक निश्चित अनुपात में मिश्रित किया और प्राप्त मिश्रण को ₹102 प्रति kg की दर से बेचा, जिससे उसे 20% लाभ हुआ। चावल की किस्मों को किस अनुपात में मिश्रित किया गया था?

- Ans  A. 3 : 1  
 B. 4 : 3  
 C. 2 : 1  
 D. 3 : 2

Question Type : MCQ  
Question ID : 4267781595  
Status : Not Answered  
Chosen Option : --  
Marks : 0

Section : English Language

Q.1 Fill in with the correct option:  
You did \_\_\_\_\_ well in your mid-term examination.

- Ans  A. fairly  
 B. always  
 C. rarely  
 D. never

Question Type : MCQ  
Question ID : 4267781618  
Status : Answered  
Chosen Option : C  
Marks : -1/4

Q.2 Choose the correct spelling:

- Ans  A. Pharaoh  
 B. Phaeroh  
 C. Phareh  
 D. Pharoh

Question Type : MCQ  
Question ID : 4267781636  
Status : Not Answered  
Chosen Option : --  
Marks : 0

Q.3 Fill in the blank with the correct option:  
He \_\_\_\_\_ the chapter.

- Ans  A. assumed  
 B. suggested  
 C. explained  
 D. described

Question Type : MCQ  
Question ID : 4267781616  
Status : Answered  
Chosen Option : C  
Marks : 1

Q.4 Choose the correct indirect narration of the sentence given below:  
Rita said, "My mother was doing her work."

- Ans  A. Rita told that her mother had been doing her work.  
 B. Rita cried to say that her mother has been doing her work.  
 C. Rita said that her mother had doing her work  
 D. Rita says that her mother will be doing her work.

Question Type : MCQ  
Question ID : 4267781626  
Status : Answered  
Chosen Option : C  
Marks : -1/4

Q.5 Fill in the blank with the correct option:  
\_\_\_\_\_ is the belief in one God.

- Ans  A. Monotheism  
 B. Poligamy  
 C. Atheism  
 D. Monogamy

Question Type : MCQ  
Question ID : 4267781640  
Status : Answered  
Chosen Option : A  
Marks : 1

Q.6 Choose the correct synonym of 'Sluggishness':

- Ans  A. Vague  
 B. Prophetic  
 C. Lassitude  
 D. Equable

Question Type : MCQ  
Question ID : 4267781631  
Status : Answered  
Chosen Option : A  
Marks : -1/4

Q.7 Fill in with the correct option:  
Please \_\_\_\_\_ the pages of the novel.

- Ans  A. turn over  
 B. think over  
 C. turn down  
 D. take over

Question Type : MCQ  
Question ID : 4267781621  
Status : Answered  
Chosen Option : A  
Marks : 1

Q.8 Choose the correct meaning of the idiom (in italics) in the sentence:  
Sangita took *exception to* my remark.

- Ans  A. Take revenge  
 B. Anticipate  
 C. Object to  
 D. Apologize

Question Type : MCQ  
Question ID : 4267781633  
Status : Answered  
Chosen Option : C  
Marks : 1

Q.9 Choose the correct option:  
Mihir got \_\_\_\_\_ best award.

- Ans  A. a  
 B. an  
 C. the  
 D. none

Question Type : MCQ  
Question ID : 4267781623  
Status : Answered  
Chosen Option : C  
Marks : 1

Q.10 Choose the correct meaning of the idiom (in italics) in the sentence:  
He had *set up* his own cosmetics business.

- Ans  A. reserved  
 B. started  
 C. postponed  
 D. expressed

Question Type : MCQ  
Question ID : 4267781632  
Status : Answered  
Chosen Option : B  
Marks : 1

Q.11 Choose the correct antonym of 'Thrifty':

- Ans  A. Extravagant  
 B. Cruel  
 C. Obscure  
 D. Scatter

Question Type : MCQ  
Question ID : 4267781629  
Status : Answered  
Chosen Option : A  
Marks : 1

Q.12 Fill in with the correct option:  
The headmistress is \_\_\_\_\_ the matter.

- Ans  A. pointing into  
 B. picking into  
 C. looking into  
 D. locking up

Question Type : MCQ  
Question ID : 4267781622  
Status : Answered  
Chosen Option : C  
Marks : 1

Q.13 Choose the correct active voice of the sentence:  
An article was being written by Somesh.

- Ans  A. Somesh was writing an article.  
 B. An article was what Somesh wrote.  
 C. Somesh wrote an article.  
 D. Somesh had been writing an article.

Question Type : MCQ  
Question ID : 4267781628  
Status : Answered  
Chosen Option : A  
Marks : -1/4

Q.14 Choose the correct synonym of 'Pinnacle':

- Ans  A. Discovery  
 B. Zenith  
 C. Silence  
 D. Expeditious

Question Type : MCQ  
Question ID : 4267781630  
Status : Answered  
Chosen Option : B  
Marks : 1

Q.15 Choose the correct option:  
He looks as moron as \_\_\_\_\_ donkey.

- Ans
- A. a
  - B. None
  - C. an
  - D. the

Question Type : MCQ  
Question ID : 4267781624  
Status : Answered  
Chosen Option : A  
Marks : -1/4

Q.16 Fill in the blank with the correct option:  
Suniti \_\_\_\_\_ her apartment by 7 pm everyday.

- Ans
- A. reaches
  - B. reached
  - C. reach
  - D. reaching

Question Type : MCQ  
Question ID : 4267781637  
Status : Answered  
Chosen Option : A  
Marks : 1

Q.17 Complete the sentence:  
Challenges must be \_\_\_\_\_.

- Ans
- A. excess
  - B. sustained
  - C. interpreted
  - D. overcome

Question Type : MCQ  
Question ID : 4267781635  
Status : Answered  
Chosen Option : D  
Marks : 1

Q.18 Choose the correct option:  
The regulations of the university \_\_\_\_\_ from the University Act.

- Ans
- A. stems
  - B. stemming
  - C. are stemmed
  - D. stem

Question Type : MCQ  
Question ID : 4267781639  
Status : Answered  
Chosen Option : D  
Marks : -1/4

Q.19 Choose the correct option:  
Radha \_\_\_\_\_ in the garden right now.

- Ans
- A. digged
  - B. Will be digging
  - C. digs
  - D. Is digging

Question Type : MCQ  
Question ID : 4267781619  
Status : Answered  
Chosen Option : D  
Marks : 1

Q.20 Choose the correct direct narration of the sentence given below:  
The Minister said that he had been sleeping for three hours.

- Ans
- A. The Minister said, "I have been sleeping for three hours."
  - B. The Minister told, "I had been sleeping for three hours."
  - C. The Minister shouted, "I will be sleeping for three hours."
  - D. The Minister announced, "I had to sleep for three hours."

Question Type : MCQ  
Question ID : 4267781625  
Status : Answered  
Chosen Option : A  
Marks : -1/4

Q.21 Fill in the blank with the correct option:  
False friends are \_\_\_\_\_.

- Ans
- A. at length
  - B. haste to waste
  - C. worse than open enemies
  - D. save life, save all

Question Type : MCQ  
Question ID : 4267781634  
Status : Answered  
Chosen Option : C  
Marks : 1

Q.22 Fill in the blank with the correct option:  
I have been working hard \_\_\_\_\_ Physics.

- Ans
- A. in
  - B. at
  - C. by
  - D. to

Question Type : MCQ  
Question ID : 4267781617  
Status : Answered  
Chosen Option : A  
Marks : 1

Q.23 Fill in the blank with the correct option:  
By next week I \_\_\_\_\_.

- Ans  A. will have finished this task.  
 B. will be finish this task.  
 C. had to finish this task.  
 D. may be finish this task.

Question Type : MCQ  
Question ID : 4267781620  
Status : Answered  
Chosen Option : A  
Marks : 1

Q.24 Fill in the blank with the correct option:  
Good manners \_\_\_\_\_ a rarity these days.

- Ans  A. is  
 B. have  
 C. has  
 D. are

Question Type : MCQ  
Question ID : 4267781638  
Status : Not Answered  
Chosen Option : --  
Marks : 0

Q.25 Choose the correct passive voice of the sentence:  
Sita had already done the work.

- Ans  A. The work was already done by Sita.  
 B. The work had already been done by Sita.  
 C. The work has already been done by Sita.  
 D. The work had already done with Sita.

Question Type : MCQ  
Question ID : 4267781627  
Status : Answered  
Chosen Option : B  
Marks : 1

**Comprehension:**

Read the passage given below and answer the questions that follow:

It isn't known when and where it all began, but throughout the ages and in the most diverse of all societies, precious stones have held an almost mystical power and significance. They shone around the necks and embellished the fingers of the ancient Egyptians; they gleamed from the turbans of great Moghul emperors and they were centrally the myth of the Holy Grail. From the earliest times, precious stones have gained a value far beyond and rational assessment of their worth. Some of the best known gems were deemed so valuable that they financed large armies; others led men to torture and murder, or literally changed the destinies of whole countries.

**SubQuestion No : 26**

**Q.26 Which is the correct synonym of the word 'decorate' in the passage?**

- Ans
- A. Precious
  - B. Torture
  - C. Embellish
  - D. Rational

Question Type : MCQ

Question ID : 4267781643

Status : Answered

Chosen Option : C

Marks : 1

**Comprehension:**

Read the passage given below and answer the questions that follow:

It isn't known when and where it all began, but throughout the ages and in the most diverse of all societies, precious stones have held an almost mystical power and significance. They shone around the necks and embellished the fingers of the ancient Egyptians; they gleamed from the turbans of great Moghul emperors and they were centrally the myth of the Holy Grail. From the earliest times, precious stones have gained a value far beyond and rational assessment of their worth. Some of the best known gems were deemed so valuable that they financed large armies; others led men to torture and murder, or literally changed the destinies of whole countries.

**SubQuestion No : 27**

**Q.27 The passage concentrates on \_\_\_\_\_.**

- Ans
- A. Mystery of the stones
  - B. Treasure
  - C. The power of the precious stones
  - D. History

Question Type : MCQ

Question ID : 4267781644

Status : Answered

Chosen Option : C

Marks : 1

**Comprehension:**

Read the passage given below and answer the questions that follow:

It isn't known when and where it all began, but throughout the ages and in the most diverse of all societies, precious stones have held an almost mystical power and significance. They shone around the necks and embellished the fingers of the ancient Egyptians; they gleamed from the turbans of great Moghul emperors and they were centrally the myth of the Holy Grail. From the earliest times, precious stones have gained a value far beyond and rational assessment of their worth. Some of the best known gems were deemed so valuable that they financed large armies; others led men to torture and murder, or literally changed the destinies of whole countries.

**SubQuestion No : 28**

**Q.28 Which word in the passage is the antonym of 'solace'?**

- Ans  A. Torture  
 B. Embellished  
 C. Literally  
 D. Assessment

Question Type : MCQ  
Question ID : 4267781646  
Status : Not Answered  
Chosen Option : --  
Marks : 0

**Comprehension:**

Read the passage given below and answer the questions that follow:

It isn't known when and where it all began, but throughout the ages and in the most diverse of all societies, precious stones have held an almost mystical power and significance. They shone around the necks and embellished the fingers of the ancient Egyptians; they gleamed from the turbans of great Moghul emperors and they were centrally the myth of the Holy Grail. From the earliest times, precious stones have gained a value far beyond and rational assessment of their worth. Some of the best known gems were deemed so valuable that they financed large armies; others led men to torture and murder, or literally changed the destinies of whole countries.

**SubQuestion No : 29**

**Q.29 According to the passage, precious stones are said to be \_\_\_\_\_.**

- Ans  A. Cultural  
 B. Mysterious  
 C. Financial  
 D. Historical

Question Type : MCQ  
Question ID : 4267781645  
Status : Not Answered  
Chosen Option : --  
Marks : 0

**Comprehension:**

Read the passage given below and answer the questions that follow:

It isn't known when and where it all began, but throughout the ages and in the most diverse of all societies, precious stones have held an almost mystical power and significance. They shone around the necks and embellished the fingers of the ancient Egyptians; they gleamed from the turbans of great Moghul emperors and they were centrally the myth of the Holy Grail. From the earliest times, precious stones have gained a value far beyond and rational assessment of their worth. Some of the best known gems were deemed so valuable that they financed large armies; others led men to torture and murder, or literally changed the destinies of whole countries.

**SubQuestion No : 30**

**Q.30 What should be the appropriate title of the passage?**

- Ans
- A. Valuable stones
  - B. Jewellery of the Egyptians
  - C. Precious Stones and Mysticism
  - D. Gems and Stones

Question Type : **MCQ**  
Question ID : **4267781642**  
Status : **Answered**  
Chosen Option : **C**  
Marks : **1**

Section : **Material Management**

**Q.1 After integration at the unit level, organizations are looking for multi-organization supply chain. This can be achieved by which of the following?**

- Ans
- A. Web enabled ERP that can run on the internet
  - B. Web enabled ERP that can run on the intranet
  - C. Intranet connectivity across all organizations
  - D. High speed internet system

Question Type : **MCQ**  
Question ID : **4267781719**  
Status : **Not Answered**  
Chosen Option : **--**  
Marks : **0**

**Q.2 Keeping the record of incoming and outgoing materials is one of the important functions of the storekeeper because material records make which of the following activities easy?**

- Ans
- A. Verification
  - B. Purchasing
  - C. Incoming inspection
  - D. Purchasing, inspection and verification

Question Type : **MCQ**  
Question ID : **4267781700**  
Status : **Answered**  
Chosen Option : **D**  
Marks : **1**

Q.3 The procedure in quality control consists of two stages viz. planning and control. The step in control consists of which of the following?

- Ans
- A. Determination of the higher and lower limits of chance variation
  - B. Construction of control chart
  - C. Pinpointing the presence of assignable causes
  - D. Pilot test to determine UCL and LCL

Question Type : MCQ  
Question ID : 4267781720  
Status : Not Answered  
Chosen Option : --  
Marks : 0

Q.4 Customer service can be improved by having many warehouses because products are located closer to the customer but the warehousing, inventory and possibly transportation cost would be higher. The determining factor will be

- Ans
- A. Customer service level
  - B. Transport cost
  - C. Warehouse cost
  - D. Total cost

Question Type : MCQ  
Question ID : 4267781692  
Status : Answered  
Chosen Option : A  
Marks : -1/4

Q.5 Value analysis is a five-step process. The first step would be?

- Ans
- A. Analysis phase
  - B. Functional analysis phase
  - C. Information phase
  - D. Creative phase

Question Type : MCQ  
Question ID : 4267781667  
Status : Answered  
Chosen Option : C  
Marks : 1

Q.6 Public procurement forms a very important part of Government activity and reform in Public Procurement is one of the top priorities of the present Government. Which of the following listed below is a dynamic, self-sustaining and user-friendly portal for making procurement by Government officers.

- Ans
- A. DGS & D
  - B. Gov-online procurement
  - C. Govt-Portal
  - D. GeM

Question Type : MCQ  
Question ID : 4267781671  
Status : Answered  
Chosen Option : D  
Marks : 1

Q.7 Whose function is it to clear goods coming by rail, sea, et., as well as to dispatch finished goods often termed as inbound and outbound logistics?

- Ans  A. It is a function of planning department  
 B. It is a function of purchase department  
 C. It is a function of material handling section  
 D. It is a function of traffic section

Question Type : MCQ  
Question ID : 4267781654  
Status : Answered  
Chosen Option : D  
Marks : 1

Q.8 Which of the following is a contract under which, during the period of its currency, the contractor engages to supply materials on demand, irrespective of quantity, at fixed unit rates or prices?

- Ans  A. Blanket order  
 B. Fixed term contract  
 C. Rate Contract  
 D. Routine Purchasing

Question Type : MCQ  
Question ID : 4267781670  
Status : Answered  
Chosen Option : D  
Marks : -1/4

Q.9 The purchase manager of Maxx Industry is buying a new capital equipment for the organization. A team formed to select supplier of capital equipment should consist of

- Ans  A. Marketing Department  
 B. Human Resource  
 C. Maintenance Department  
 D. Accounts Department

Question Type : MCQ  
Question ID : 4267781652  
Status : Not Answered  
Chosen Option : --  
Marks : 0

Q.10 Converting physical quantities of materials into monetary value is necessary to judge the performance of materials management function in terms of inventory turnover ratio is known as

- Ans  A. Inventory valuation  
 B. Asset valuation  
 C. Material costing  
 D. Material pricing

Question Type : MCQ  
Question ID : 4267781695  
Status : Not Answered  
Chosen Option : --  
Marks : 0

Q.11 The warehouse manager collects smaller shipments to form a larger quantity in order to realize lower transportation rate. The warehouse manager is doing which of these?

- Ans
- A. Product mix
  - B. Order filling
  - C. Cross-docking
  - D. Consolidation

Question Type : MCQ  
Question ID : 4267781691  
Status : Not Answered  
Chosen Option : --  
Marks : 0

Q.12 A graphical chart used to control a process variability using statistical means is known as

- Ans
- A. Statistical chart
  - B. Graphical representation chart
  - C. Control Chart
  - D. Mathematical representation chart

Question Type : MCQ  
Question ID : 4267781709  
Status : Answered  
Chosen Option : C  
Marks : 1

Q.13 Forward purchasing refers to

- Ans
- A. Purchasing under credit
  - B. Purchasing without purchase order
  - C. Buying before requirement known
  - D. Purchasing for future

Question Type : MCQ  
Question ID : 4267781660  
Status : Answered  
Chosen Option : A  
Marks : -1/4

Q.14 In many organizations, the inventory control department is a part of

- Ans
- A. sales
  - B. purchase
  - C. Production planning and control
  - D. production

Question Type : MCQ  
Question ID : 4267781655  
Status : Not Answered  
Chosen Option : --  
Marks : 0

Q.15 As transportation manager, you are arranging to dispatch multiple shipments on a single vehicle. What document will you use to provide a single account which defines the contents of the total load without requiring a review of individual bills of lading?

- Ans
- A. Transit Bill
  - B. Freight bills
  - C. Shipping manifest
  - D. Combined freight bill

Question Type : MCQ  
Question ID : 4267781689  
Status : Not Answered  
Chosen Option : --  
Marks : 0

Q.16 While assessing the different alternative materials handling equipment, it is also essential to take into consideration, which of the following?

- Ans
- A. Acceptance by the employees
  - B. Acceptance by customers
  - C. Accessories that might be required
  - D. WIP inventory movement

Question Type : MCQ  
Question ID : 4267781694  
Status : Not Answered  
Chosen Option : --  
Marks : 0

Q.17 As a materials manager, your objective is to lower cost of acquisition and possession. Which of these will be your action plan?

- Ans
- A. Influence Make/Buy decision to always Make
  - B. Planning materials only after the suppliers are ready to provide them
  - C. Optimize the ordering quantity per order
  - D. Order in bulk to get benefit of economy of scale

Question Type : MCQ  
Question ID : 4267781648  
Status : Not Answered  
Chosen Option : --  
Marks : 0

Q.18 Logistic planning is concerned with how to move the product efficiently and effectively through the logistic channel which is planned strategically. Which of the following is strategic decision?

- Ans
- A. Safety stock levels
  - B. Seasonal leasing of transport vehicles
  - C. Stocking locations and policies for inventory control
  - D. Routing and dispatching of transport vehicles

Question Type : MCQ  
Question ID : 4267781682  
Status : Not Answered  
Chosen Option : --  
Marks : 0

Q.19 When the variability present in a production process is limited to chance variation the process is said to be \_\_\_\_\_

- Ans
- A. Out of control
  - B. Having assignable cause
  - C. In a state of statistical control
  - D. Under quality control

Question Type : MCQ  
Question ID : 4267781721  
Status : Answered  
Chosen Option : D  
Marks : -1/4

Q.20 जब कोई कंपनी अपना माल गोदाम बनाने का फैसला करती है, तो माल गोदाम के आकार को लेकर सवाल उठता है। इनमें से कौन सा विकल्प सवाल उठने के पीछे के कारण को व्यक्त करता है?

- Ans
- A. क्योंकि इसे लॉजिस्टिक के आकार अनुरूप होना चाहिए
  - B. क्योंकि इसमें मालसूची लागत सम्मिलित है
  - C. क्योंकि इसमें अचल परिसंपत्तियों में निवेश सम्मिलित है
  - D. क्योंकि इसमें बड़े परिवहन सम्मिलित हैं

Question Type : MCQ  
Question ID : 4267781679  
Status : Answered  
Chosen Option : A  
Marks : -1/4

Q.21 The means by which the purchase department is formally informed about the need for a particular item by the user department is which of the following document?

- Ans
- A. Purchase Order
  - B. Purchase Quotation
  - C. Purchase Request
  - D. Purchase Invoice

Question Type : MCQ  
Question ID : 4267781665  
Status : Not Answered  
Chosen Option : --  
Marks : 0

Q.22 आपको बड़ी मात्रा में लौह अयस्क को खदान से इस्पात संयंत्र तक किफायती रूप से परिवहन करना है और सड़क, रेल, वायु और जलमार्ग, ये परिवहन के उपलब्ध विकल्प हैं। आप किस साधन का सुझाव देंगे?

- Ans
- A. रेल
  - B. वायु
  - C. जल
  - D. सड़क

Question Type : MCQ  
Question ID : 4267781690  
Status : Answered  
Chosen Option : A  
Marks : -1/4

Q.23 आपको अपने बॉस से एक ईमेल प्राप्त होता है जिसमें EOD तक एक कार्य पूरा करने के लिए कहा जाता है। इसमें उपयोग किए गए परिवर्णी शब्द EOD का पूर्ण रूप क्या है?

- Ans  A. EOD का पूर्ण रूप "End of Day (एंड ऑफ डे)", प्रायः 5 p.m. होता है।  
 B. EOD का पूर्ण रूप 'End of Day (एंड ऑफ डे)', प्रायः मध्य-रात्रि होता है।  
 C. EOD का पूर्ण रूप 'Employee On Duty (एम्प्लॉई ऑन ड्यूटी)' होता है।  
 D. EOD का पूर्ण रूप 'Everything in Order and Done (एवरीथिंग इन ऑर्डर एंड डन)' होता है।

Question Type : MCQ  
Question ID : 4267781676  
Status : Not Answered  
Chosen Option : --  
Marks : 0

Q.24 When the registered suppliers for goods, which are not available on GeM, and are identified as common use items and are needed on recurring basis by various Central Government Ministries or Departments DGS & D shall conclude which of the following?

- Ans  A. Policy Contract  
 B. Rate contracts  
 C. Public contract  
 D. Price contract

Question Type : MCQ  
Question ID : 4267781664  
Status : Answered  
Chosen Option : B  
Marks : 1

Q.25 निम्नलिखित कथनों में से कौन सा सही है?

- Ans  A. सभी नमूना योजनाओं के लिए OC वक्र सामान्य होता है।  
 B. विभिन्न नमूना योजनाओं के लिए OC वक्र भिन्न होंगे।  
 C. एकल नमूना योजनाओं के लिए OC वक्र की आवश्यकता नहीं होती।  
 D. दोहरी नमूना योजनाओं के लिए OC वक्र की आवश्यकता नहीं होती।

Question Type : MCQ  
Question ID : 4267781712  
Status : Not Answered  
Chosen Option : --  
Marks : 0

Q.26 Storage and transport unit arranged on a pallet or in container to ensure efficient handling is known as

- Ans  A. Unit load  
 B. Unit stack  
 C. Unit carton  
 D. Unit pallet

Question Type : MCQ  
Question ID : 4267781702  
Status : Answered  
Chosen Option : A  
Marks : 1

Q.27 Most assembly manufacturing organization are required to keep records that describe the structure of the products to be assembled. This product structure records are referred to as

- Ans
- A. Manufacturing Sequence
  - B. Bill of Material (BOM)
  - C. Standard Operating Procedure (SOP)
  - D. Manufacturing Order List (MOL)

Question Type : MCQ  
Question ID : 4267781649  
Status : Not Answered  
Chosen Option : --  
Marks : 0

Q.28 परंपरावादी एक छोटी क्रेता कंपनी को लेकर चिंतित हैं जिसकी अल्प बाजार शक्ति है और उस पर एक बड़ी आपूर्तिकर्ता कंपनी का प्रभुत्व है। परंपरावादियों के भय का इनमें से कौन सा, समाधान हो सकता है?

- Ans
- A. बड़े क्रय मूल्य की प्रतिबद्धता रखें
  - B. बड़े संगठनों से क्रय करने से बचें
  - C. ऐसा आपूर्तिकर्ता चुनें जो TQM का पालन करता हो या ISO 9000 प्रमाणित हो।
  - D. उनकी शर्तों को स्वीकार करने के अलावा अन्य कोई विकल्प नहीं है

Question Type : MCQ  
Question ID : 4267781653  
Status : Answered  
Chosen Option : C  
Marks : 1

Q.29 The primary objective of logistic management is to efficiently and effectively move inventory in supply chain in order to extend

- Ans
- A. Desired level of customer service at the least possible cost
  - B. Desired level of customer service
  - C. Desired level of supplier service at least possible cost
  - D. Desired level of supplier service

Question Type : MCQ  
Question ID : 4267781686  
Status : Answered  
Chosen Option : A  
Marks : 1

Q.30 A set of people and firms involved in the transfer of ownership of the product from the producer to the ultimate consumer are called

- Ans
- A. Distribution partners
  - B. Logistic partners
  - C. Third party logistic (3PL)
  - D. Distribution channel

Question Type : MCQ  
Question ID : 4267781658  
Status : Answered  
Chosen Option : A  
Marks : -1/4

Q.31 Production and operations managers found it necessary to develop an organized body of knowledge related to planning, acquisition and utilization of material in the process of production and it has resulted in the discipline known as \_\_\_\_\_

- Ans
- A. Material Management
  - B. Material Control
  - C. Procurement Function
  - D. Material Planning

Question Type : MCQ  
Question ID : 4267781647  
Status : Answered  
Chosen Option : A  
Marks : 1

Q.32 According to green design, the cost of extracting of metal from its ore is 6 to 10 times more than that of reusing the same metal. This indicates that design in future would be based on

- Ans
- A. The principle of recycling rather than extracting
  - B. Zero extraction of metal
  - C. Replacing metal with plastics
  - D. Use less of metal components

Question Type : MCQ  
Question ID : 4267781696  
Status : Not Answered  
Chosen Option : --  
Marks : 0

Q.33 Traditionally organizations used EOQ to optimize ordering cost. Lean manufacturing advocates even smaller lots while ordering. Which of the following may help in reducing ordering lot size and still keep ordering cost minimum?

- Ans
- A. Buying from multiple sources
  - B. Buying from supplier who are closer to you
  - C. Web based ordering
  - D. Buying from small suppliers

Question Type : MCQ  
Question ID : 4267781726  
Status : Answered  
Chosen Option : C  
Marks : 1

Q.34 In using acceptance sampling plan, there is a finite probability \_\_\_\_\_

- Ans
- A. that the lot may be accepted only if quality is more than 50% good
  - B. that the lot may be accepted only if supplier is really good
  - C. that the lot may be accepted only if quality is really good
  - D. that the lot may be accepted even if quality is not really good

Question Type : MCQ  
Question ID : 4267781716  
Status : Answered  
Chosen Option : A  
Marks : -1/4

Q.35 Which of the following is a statutory requirement and is a must for an efficient scientific inventory control?

- Ans
- A. Codification of stock
  - B. Color coding of material
  - C. Classification of material
  - D. Physical stock taking

Question Type : MCQ

Question ID : 4267781707

Status : Not Answered

Chosen Option : --

Marks : 0

Q.36 As a project needs to be complete fast, purchase manager is asked to make faster purchases. To ensure adequate competition the purchase manager adopts tender system which addresses only the most likely and suitable sources. Which tender system is he adopting?

- Ans
- A. Open Tender
  - B. Calculated Tender
  - C. Limited Tender
  - D. Closed Tender

Question Type : MCQ

Question ID : 4267781661

Status : Answered

Chosen Option : D

Marks : -1/4

Q.37 आप एक प्रक्रम में विविधताओं की निगरानी के लिए एक एस.पी.सी. आरेख बना रहे हैं। नियंत्रणाधीन अवस्था के संगत औसत मान इनमें से किसके द्वारा निरूपित होगा?

- Ans
- A. केंद्र रेखा (CL)
  - B. ऊपरी नियंत्रण रेखा (UCL)
  - C. नमूने का औसत मान
  - D. निचली नियंत्रण रेखा (LCL)

Question Type : MCQ

Question ID : 4267781714

Status : Not Answered

Chosen Option : --

Marks : 0

Q.38 Maxx Industry assembles precision CNC machines. One reason Maxx Industry will prefer to purchase indirect goods online than direct goods is because

- Ans
- A. They are contactless purchases
  - B. They may be delivered too soon
  - C. They can be directly sent to Maxx Industry site
  - D. They do not directly affect the quality of the Maxx's final product

Question Type : MCQ  
Question ID : 4267781666  
Status : Answered  
Chosen Option : C  
Marks : -1/4

Q.39 भारत में आयात-निर्यात व्यवसाय प्रारंभ करने के लिए कंपनियों को इनमें से कौन सा दस अंकों का लाइसेंस कोड लेना अनिवार्य है?

- Ans
- A. आयात निर्यात कोड (IEC)
  - B. विदेशी मुद्रा व्यापार कोड (FxTC)
  - C. विदेश व्यापार कोड (FTC)
  - D. एक्जिम कोड (EXC)

Question Type : MCQ  
Question ID : 4267781662  
Status : Not Answered  
Chosen Option : --  
Marks : 0

Q.40 Which is the correct way to communicate to your customer about the relocation of your office?

- Ans
- A. As of May 2, we are relocating our Delhi office. Please note the new address
  - B. We are moving our Delhi office in May.
  - C. We are moving our office
  - D. We are moving our Delhi office in May. Please note our new address

Question Type : MCQ  
Question ID : 4267781674  
Status : Answered  
Chosen Option : A  
Marks : 1

Q.41 If you are setting up a control chart for variable measurements like proportionate defects in a fixed sample, you will be considering

- Ans
- A. C chart
  - B. X chart
  - C. R bar & P bar chart
  - D. P chart

Question Type : MCQ  
Question ID : 4267781713  
Status : Not Answered  
Chosen Option : --  
Marks : 0

Q.42 If you are to manage a large distribution center, in order to handle the new trends and demands of distribution management and keep track of inventories, which of these will you employ?

- Ans  A. Automated warehouse management system  
 B. Computerize all inventory records  
 C. Highly skilled stores personal  
 D. Order management system

Question Type : MCQ  
Question ID : 4267781678  
Status : Answered  
Chosen Option : B  
Marks : -1/4

Q.43 There is pressure on the organization's profit and you are asked to help reap maximum profit. What would be your action?

- Ans  A. Minimize customer service level  
 B. Maximize distribution cost  
 C. Maximize production cost  
 D. Minimize inventory investment

Question Type : MCQ  
Question ID : 4267781656  
Status : Answered  
Chosen Option : D  
Marks : 1

Q.44 Purchasing has a major and active role in supply chain management. To ensure procuring right quantity of material of the right quality at the right time, at the right place from the right source and the right cost the purchase manager has to do which of the following?

- Ans  A. Locate and select the local suppliers  
 B. Locate and select the right suppliers  
 C. Locate and select the global supplier  
 D. Locate and select small suppliers

Question Type : MCQ  
Question ID : 4267781650  
Status : Answered  
Chosen Option : B  
Marks : 1

Q.45 आप गुणवत्ता माप के लिए गुण नियंत्रण आरेख प्रयोग कर रहे हैं। आप निम्न में से किस आरेख का प्रयोग करेंगे?

- Ans  A. P आरेख या C आरेख  
 B. केवल C आरेख  
 C. X आरेख  
 D. P आरेख

Question Type : MCQ  
Question ID : 4267781710  
Status : Not Answered  
Chosen Option : --  
Marks : 0

Q.46 You are planning to get ISO 9000 : 2015 certification for your organization. Who will you approach for the certification?

- Ans  A. External Certification Body  
 B. International Standards Organization  
 C. International Safety Organization  
 D. International Organization for Standardization

Question Type : MCQ  
Question ID : 4267781708  
Status : Answered  
Chosen Option : D  
Marks : -1/4

Q.47 Stores organization means a systematic coordination and combination of efforts in a manner which would result in \_\_\_\_\_

- Ans  A. major blacking of working capital  
 B. optimum efficiency  
 C. optimum efficiency with minimum expenditure  
 D. optimum efficiency with high expenditure

Question Type : MCQ  
Question ID : 4267781704  
Status : Answered  
Chosen Option : C  
Marks : 1

Q.48 You are confirming an order to your customer through a letter. You know there is a problem with availability or schedule but hope it will get solved soon. What will you do?

- Ans  A. confirm the order hoping the problem will get settled soon  
 B. confirm the order now and plan to send regret letter later if required  
 C. mention to the customer about the likely problem  
 D. confirm the order and the delivery date

Question Type : MCQ  
Question ID : 4267781675  
Status : Answered  
Chosen Option : B  
Marks : -1/4

Q.49 As a procurement manager, you realize, sourcing risks may result in an inability to meet demand on time and also increase in procurement costs. Therefore, it is important to \_\_\_\_\_

- Ans  A. develop a single source as a strategy  
 B. develop mitigation strategies  
 C. avoid purchasing  
 D. restrict procurement activities

Question Type : MCQ  
Question ID : 4267781672  
Status : Answered  
Chosen Option : C  
Marks : -1/4

Q.50 Which of the following may not be a key logistic activity?

- Ans  A. Customer Service  
 B. Quality Control  
 C. Material Handling  
 D. Inventory Management

Question Type : MCQ  
Question ID : 4267781687  
Status : Answered  
Chosen Option : B  
Marks : 1

Q.51 Stocking of pallets or containers in rows such that each rows contacts the adjacent row is known as

- Ans  A. Row stocking  
 B. Special stocking  
 C. Vertical stocking  
 D. Block stocking

Question Type : MCQ  
Question ID : 4267781699  
Status : Answered  
Chosen Option : C  
Marks : -1/4

Q.52 The mode of transportation is the manner in which a product is moved from one location in the supply chain network to another. Which of the following is not a characteristic of a mode of transportation?

- Ans  A. Containerized shipments  
 B. Speed of shipment  
 C. Size of shipment  
 D. Flexibility

Question Type : MCQ  
Question ID : 4267781677  
Status : Answered  
Chosen Option : D  
Marks : -1/4

Q.53 A purchase manager can resort to \_\_\_\_\_ to neutralize the effect of prices in the market.

- Ans  A. Hedging  
 B. Negotiation  
 C. Price break  
 D. Bargaining

Question Type : MCQ  
Question ID : 4267781659  
Status : Not Answered  
Chosen Option : --  
Marks : 0

Q.54 Use of different transport networks and modes based on customer and product characteristics is known as

- Ans
- A. Route Routing
  - B. Designing Customer Service
  - C. Multi modal Transportation
  - D. Tailored Transport

Question Type : MCQ  
Question ID : 4267781681  
Status : Answered  
Chosen Option : C  
Marks : -1/4

Q.55 Direct computer-to-computer exchange of business documents in standard formats to facilitate high-volume transaction is known as

- Ans
- A. ERP
  - B. EDI
  - C. E-business
  - D. CRM

Question Type : MCQ  
Question ID : 4267781723  
Status : Answered  
Chosen Option : A  
Marks : -1/4

Q.56 आपूर्ति शृंखला प्रबंधन को, संगठन और इसके विपणन चैनल के माध्यम से सामग्रियों और तैयार माल की अधिप्राप्ति, संचलन और भंडारण के रणनीतिक प्रबंधन के प्रक्रम के रूप में कैसे देखा जा सकता है?

- Ans
- A. वर्तमान लाभप्रदता को अधिकतम करने के रूप में
  - B. आपूर्ति शृंखला के प्रयासों को कम करने के रूप में
  - C. वर्तमान और भविष्य की लाभप्रदता को अधिकतम करने के रूप में
  - D. भविष्य की लाभप्रदता अधिकतम करने के रूप में

Question Type : MCQ  
Question ID : 4267781657  
Status : Answered  
Chosen Option : C  
Marks : 1

Q.57 Just by installing ERP system an organization cannot expect the benefits to flow, ERP expects \_\_\_\_\_

- Ans
- A. the all pc to be changed to laptop
  - B. all software to be reloaded
  - C. all employees to learn software programming
  - D. people to change the way they do their job

Question Type : MCQ  
Question ID : 4267781718  
Status : Answered  
Chosen Option : B  
Marks : -1/4

Q.58 Though the purchaser, follow-up man and the supplier put effort to get the product delivered in time, which phase can ruin the entire effort if it adopts an indifferent attitude?

- Ans  A. Receipt, inspection and storage  
 B. Material indenting  
 C. Issue of material  
 D. Release of purchase order

Question Type : MCQ  
 Question ID : 4267781705  
 Status : Answered  
 Chosen Option : D  
 Marks : -1/4

Q.59 If you under take to computerize all records in the store, how do you think it will help you?

- Ans  A. Maintain up-to date stock level  
 B. It will increase the stock level  
 C. Increase the store space  
 D. Increase the stock value in the store

Question Type : MCQ  
 Question ID : 4267781725  
 Status : Answered  
 Chosen Option : A  
 Marks : 1

Q.60 इंटरमॉडल परिवहन (Intermodal Transportation) का उपयोग करके, लॉजिस्टिक प्रबंधक इनमें से किसका समाधान कर सकता है?

- Ans  A. मार्गनिर्धारण की समस्याएं  
 B. लॉजिस्टिक लागत  
 C. किसी निर्दिष्ट साधनकी सेवा के नुकसान  
 D. बहु-परिवहन संघर्ष / प्रतिकूलता

Question Type : MCQ  
 Question ID : 4267781688  
 Status : Not Answered  
 Chosen Option : --  
 Marks : 0

Q.61 निर्दिष्ट यातायात लेन पर सेवा प्रदान करने के लिए इंटरमॉडल परिवहन दो या दो से अधिक साधनों का उपयोग करता है। इंटरमॉडल परिवहन सेवा, जिसमें रेल-सड़क शामिल है, को \_\_\_\_\_ कहा जाता है।

- Ans  A. फिशी-बैंक  
 B. पिग्गी-बैंक  
 C. मल्टी-मिक्स ट्रांसपोर्टेशन  
 D. बर्ड-बैंक

Question Type : MCQ  
 Question ID : 4267781683  
 Status : Answered  
 Chosen Option : C  
 Marks : -1/4

Q.62 स्वीकृति नमूना योजना (N, n, c) के रूप में निरूपित है जिसमें 'N' एक कंसाइनमेन्ट (प्रेषित माल) में वस्तुओं की कुल संख्या है और 'n' कंसाइनमेन्ट से निरीक्षण के लिए लिया गया नमूना है। 'c' क्या निरूपित करता है?

- Ans  A. 'c' अस्वीकृति संख्या है  
 B. 'c' स्वीकृति संख्या है  
 C. 'c' अभिलक्षणिक संख्या है  
 D. 'c' केंद्रीय संख्या है

Question Type : MCQ  
Question ID : 4267781715  
Status : Not Answered  
Chosen Option : --  
Marks : 0

Q.63 The role of store department is extracting crucial because \_\_\_\_\_

- Ans  A. A major amount of capital is locked up in material  
 B. Material records are kept here  
 C. It engages with many suppliers  
 D. It acts as complementary to purchase department

Question Type : MCQ  
Question ID : 4267781703  
Status : Answered  
Chosen Option : A  
Marks : 1

Q.64 Which of the phrase listed below may not be useful in tiding over a difficult situation and making correspondence pleasant?

- Ans  A. Many thanks for your letter of 09 June, 2019  
 B. We are glad to note that you are now in a position to pay our bill  
 C. We are sorry that you did not receive the consignment in time  
 D. You are wrong in saying we did not send the receipt for your payments

Question Type : MCQ  
Question ID : 4267781673  
Status : Answered  
Chosen Option : B  
Marks : -1/4

Q.65 On the basis of the checking of the consignment \_\_\_\_\_ is made by the storekeeper, which will be used for settling bills.

- Ans  A. Indent Report  
 B. Goods Issue Note  
 C. Bill of Lading  
 D. Goods Received Note

Question Type : MCQ  
Question ID : 4267781701  
Status : Answered  
Chosen Option : D  
Marks : 1

Q.66 Which of the following is a common interface between sending and receiving system which collects transaction messages and information from a manufacturer and then translate those messages into appropriate industry-specific communication standard?

- Ans
- A. Value-Added Network (VAN)
  - B. Enterprise Resource Planning (ERP)
  - C. Electronic Data Interchange (EDI)
  - D. Radio-Frequency Data Communication (RFDC)

Question Type : MCQ  
Question ID : 4267781724  
Status : Not Answered  
Chosen Option : --  
Marks : 0

Q.67 A process of physical verification of an item when its store falls below the reorder level is known as

- Ans
- A. Reorder point stock taking
  - B. Virtual Inventory method
  - C. Perpetual or continuous inventory approach
  - D. Low Point Inventory method

Question Type : MCQ  
Question ID : 4267781693  
Status : Not Answered  
Chosen Option : --  
Marks : 0

Q.68 Manufacturing activities provide form utility (i.e., converting the raw materials into products of required size and shape). Logistic activities provide which of the following?

- Ans
- A. Time utility
  - B. Place utility
  - C. Time and place utility
  - D. Time, place utility and possession utility

Question Type : MCQ  
Question ID : 4267781685  
Status : Not Answered  
Chosen Option : --  
Marks : 0

Q.69 Supplier performance analysis should be used to build a portfolio of \_\_\_\_\_

- Ans
- A. Supplier of complementary strengths
  - B. Supplier with equal strength
  - C. Supplier of same levels of performance
  - D. Supplier of different locations

Question Type : MCQ  
Question ID : 4267781669  
Status : Answered  
Chosen Option : A  
Marks : 1

Q.70 शिपमेंट इस प्रकार के परिवहन नवाचार, जिसमें आपूर्तिकर्ता के शिपमेंट आने पर उन्हें माल-गोदाम में विभिन्न डॉक से ले जाया जाता है और दूसरे डॉक पर एक ट्रक में स्थानांतरित किया जाता है, को \_\_\_\_\_ के रूप में जाना जाता है।

- Ans
- A. लॉजिस्टिक स्विचिंग
  - B. अंतर्गामी से निर्गामी स्थानांतरण
  - C. त्वरित स्थानांतरण
  - D. क्रॉस डॉकिंग

Question Type : MCQ  
Question ID : 4267781684  
Status : Not Answered  
Chosen Option : --  
Marks : 0

Q.71 भंडार प्राप्त करने पर, निरीक्षण के लिए आइटम के आवश्यक विनाशक परीक्षण के फलस्वरूप निषेधात्मक लागत होती है। इस लागत को कम करने के लिए आप क्या समाधान करेंगे?

- Ans
- A. स्वीकृति नमूना आयोजन करें
  - B. आपूर्तिकर्ता को समाधान प्रस्तुत करने के लिए कहें
  - C. 100% निरीक्षण करें
  - D. कोई निरीक्षण न करें

Question Type : MCQ  
Question ID : 4267781722  
Status : Answered  
Chosen Option : A  
Marks : 1

Q.72 भंडाररक्षण (स्टोर कीपिंग) का इनमें से कौन सा उद्देश्य नहीं है?

- Ans
- A. आपूर्तिकर्ताओं को सेवा देना
  - B. भंडार का लेखांकन
  - C. अन्य विभागों के साथ समन्वय स्थापित करना
  - D. माल पड़ताल

Question Type : MCQ  
Question ID : 4267781697  
Status : Answered  
Chosen Option : C  
Marks : -1/4

Q.73 ई-व्यवसाय उस गति को बहुत बढ़ा सकता है जिसके साथ ग्राहक की मांग की जानकारी पूरी आपूर्ति शृंखला में प्रसारित की जाती है, जिससे \_\_\_\_\_ होते हैं।

- Ans
- A. सटीक पूर्वानुमान प्राप्त
  - B. कार्य योजना विलंबित
  - C. पूर्वानुमान आंकड़े कम
  - D. प्रतियोगियों के पूर्वानुमान ज्ञात

Question Type : MCQ  
Question ID : 4267781663  
Status : Answered  
Chosen Option : A  
Marks : 1

Q.74 For procurement of capital equipment, a company advertises in papers and periodicals in other countries. it is seeking

- Ans  A. Local Tender  
 B. Global Tender  
 C. National Tender  
 D. Open Tender

Question Type : MCQ  
 Question ID : 4267781668  
 Status : Answered  
 Chosen Option : B  
 Marks : 1

Q.75 एक OC वक्र में उत्पादक का जोखिम, इनमें से किसके संगत होता है?

- Ans  A. स्वीकार्य मात्रा स्तर (AQL)  
 B. लाट सहनशीलता प्रतिशत दोषपूर्ण (LTPD)  
 C. लाट में दोषपूर्ण प्रतिशत (PD)  
 D. लाट सहनशीलता निरपेक्ष दोषपूर्ण (LTAD)

Question Type : MCQ  
 Question ID : 4267781717  
 Status : Not Answered  
 Chosen Option : --  
 Marks : 0

Q.76 EOQ प्रत्येक मालसूची स्थिति पर लागू नहीं हो सकता है। क्रय प्रबंधक के रूप में, आपके लिए यह इनमें से किस स्थिति में लाभकारी होगा?

- Ans  A. केवल कम मूल्य की वस्तुएं क्रय करते समय  
 B. आकस्मिक रूप से कोई वस्तु क्रय करते समय  
 C. केवल थोक वस्तुएं क्रय करते समय  
 D. पुनरावर्ती रूप से कोई वस्तु क्रय करते समय

Question Type : MCQ  
 Question ID : 4267781651  
 Status : Not Answered  
 Chosen Option : --  
 Marks : 0

Q.77 नेटवर्क पर दो बिंदुओं के बीच शिपमेंट के दौरान इनमें से किसे एक जोखिम नहीं माना जाना चाहिए?

- Ans  A. खतरनाक सामग्री का जोखिम  
 B. शिपमेंट में विलम्ब होने का जोखिम  
 C. मध्यवर्ती बिंदुओं के वाह्य कारकों से बाधित होने के कारण, शिपमेंट के गंतव्य तक न पहुंचने का जोखिम।  
 D. परिवहन प्रणाली के अतिभारण (ओवरलोडिंग) का जोखिम

Question Type : MCQ  
 Question ID : 4267781680  
 Status : Answered  
 Chosen Option : B  
 Marks : -1/4

Test

Prime

By Adda247

# Previous Year Papers PDF

PRACTICE MORE, SCORE HIGHER!



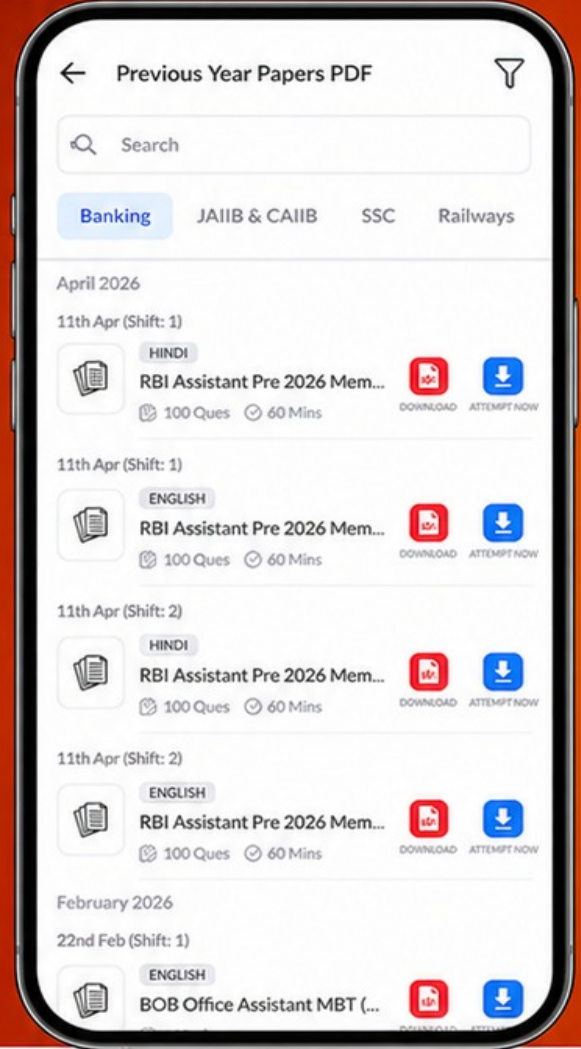
Free  
**25,000+**  
PDF's

High-Quality | Exam-Wise | Updated Regularly

ATTEMPT AS  
**MOCK**



Turn PDFs into real exam experience.  
Analyze. Improve. Succeed.



Topic-wise & Exam-wise PDFs



Download & Study Offline



Attempt as Mock & Track Score



Smart Analysis & Performance

AVAILABLE IN



Banking



SSC



Railway



Teaching



UGC



Agriculture



Nursing



Bihar



UP



Punjab



WB



Odisha



TN



AP & Telangana



Haryana



DOWNLOAD THE APP



Q.78 अप्रचलित वस्तुएं वे होती हैं जो प्रौद्योगिकी या बाजार में परिवर्तनों के कारण पुरानी हो जाती हैं। इन वस्तुओं को \_\_\_\_\_ से पहले निस्तारित किया जाना चाहिए।

- Ans
- A. वित्तीय वर्ष समाप्त हो जाने
  - B. उनका निस्तारण मूल्य शून्य हो जाने
  - C. नई तकनीक अपनाए जाने
  - D. ग्राहक को इनके होने का ज्ञान हो जाने

Question Type : MCQ  
Question ID : 4267781698  
Status : Answered  
Chosen Option : B  
Marks : 1

Q.79 यदि आप बड़ी संख्या में उत्पाद शृंखलाओं वाले किसी बड़े कारखाने के लिए एक भंडार को डिजाइन कर रहे हैं, तो आप किस प्रकार के भंडार को वरीयता देंगे?

- Ans
- A. विकेंद्रीकृत भंडार
  - B. शाखा भंडार
  - C. उप-भंडारों के साथ केंद्रीय भंडार
  - D. केंद्रीकृत भंडार

Question Type : MCQ  
Question ID : 4267781706  
Status : Not Answered  
Chosen Option : --  
Marks : 0

Q.80 In using acceptance sampling plan there is a finite probability that the lot may be rejected even if the quality is actually good. This type of risk is known as

- Ans
- A. Material risk
  - B. Consumer's risk
  - C. Process risk
  - D. Producer's risk

Question Type : MCQ  
Question ID : 4267781711  
Status : Answered  
Chosen Option : D  
Marks : 1