

CG Pre B.Ed.
Previous Year Paper 22 May, 2025

Mental Ability

मानसिक योग्यता

1. If 'QUICK' is written as RYRSJ. How 'DELHI' is written in that code?

- A. EIUXR
- B. EUIXG
- C. EIUXH
- D. None of the above

1. यदि 'QUICK' को RYRSJ लिखा जाता है, तो उसी कोड में 'DELHI' को कैसे लिखेंगे?

- A. EIUXR
- B. EUIXG
- C. EIUXH
- D. उपरोक्त में से कोई नहीं

2. Heavier coins are more valuable- Ram's coin is heavier than Mohan's coin and more valuable than Ramesh Coins.

Naresh coin is more valuable than Ram's coin and Costlier than Yogesh's Coin.

The order of valuable coin is-

- A. Yogesh < Naresh > Ram > Ramesh / Mohan
- B. Yogesh > Ram > Naresh > Ramesh > Mohan
- C. Mohan / Ramesh < Naresh > Yogesh / Ram
- D. Mohan > Ramesh > Ram > Naresh > Yogesh

2. अधिक भारी सिक्के अधिक मूल्य के होते हैं- राम का सिक्का मोहन के सिक्के से भारी और रमेश के सिक्के से अधिक मूल्यवान है।

नरेश का सिक्का राम के सिक्के से अधिक मूल्यवान और योगेश के सिक्के से महंगा है। तो मूल्यवान सिक्कों का क्रम होगा-

- A. योगेश < नरेश > राम > रमेश / मोहन
- B. योगेश > राम > नरेश > रमेश > मोहन
- C. मोहन / रमेश < नरेश > योगेश / राम
- D. मोहन > रमेश > राम > नरेश > योगेश

**Test
Prime**

By Adda247

ALL EXAMS, ONE SUBSCRIPTION



Test. Analyze. Improve. Repeat.



Don't just *prepare*. *Perform*.

Test Prime — built only for mock tests.



1,50,000+
Mock Tests



25,000+
Previous Year Papers



800+
Exam Covered



500% Refund
on Selection



5 lakh+
Free Quizzes



Daily
Free PDFs



Job Alerts
Stay Updated

- Multilingual
- Detailed Solution
- Strong and Weak Areas



**All India
Rankings**

Compete with lakhs.
Rank. Improve. Repeat.



← Adda247 test prime

Rating ▾

Editors' choice

New



Adda247 Test Prime
Adda Education • Education
Installed



DOWNLOAD THE APP



3. Match the following-

<u>Column - I</u>	<u>Column - II</u>
(a) Rabbit	(I) Frisk
(b) Lamb	(II) Amble
(c) Cock	(III) Leap
(d) Elephant	(IV) Strut

Choose the correct answer from the options given below-

- A. a-III, b-I, c-II, d-IV
 B. a-III, b-I, c-IV, d-II
 C. a-I, b-II, c-III, d-IV
 D. a-I, b-III, c-IV, d-II

3. निम्नलिखित को सुमेलित कीजिए-

<u>कालम - I</u>	<u>कालम - II</u>
(a) खरगोश	(I) उछलना-कूदना
(b) मेमना	(II) धीरे-धीरे चलना
(c) मुर्गा	(III) उछलना
(d) हाथी	(IV) अकड़कर चलना

नीचे दिए गए विकल्पों में से सही उत्तर चुनें-

- A. a-III, b-I, c-II, d-IV
 B. a-III, b-I, c-IV, d-II
 C. a-I, b-II, c-III, d-IV
 D. a-I, b-III, c-IV, d-II

5. G
 S
 G
 b
 I
 b
 J
 t

4. If every third letter from the left of the English alphabet is removed then what will be the ninth letter from left in the new series?

- A. M
 B. L
 C. N
 D. O

4. यदि अंग्रेजी वर्णमाला के बाएं से प्रत्येक तीसरे अक्षर को हटा दिया जाए तो नई श्रृंखला में बाएं से नौवां अक्षर क्या होगा?

- A. M
 B. L
 C. N
 D. O

6.

Adda247

5. *Ganga, Yamuna, Saraswati, Kosi* and *Son* are five rivers-
Ganga is smaller than *Yamuna* but bigger than *Son*.
If *Kosi* is smaller than *Yamuna* but bigger than *Ganga*.
Then the order of the rivers from biggest to smallest will be-
- A. *Saraswati* > *Yamuna* > *Kosi* > *Ganga* > *Son*
B. *Yamuna* > *Saraswati* > *Kosi* > *Ganga* > *Son*
C. *Saraswati* > *Kosi* > *Yamuna* > *Ganga* > *Son*
D. *Saraswati* > *Yamuna* > *Ganga* > *Son* > *Kosi*

6. In the given letter series some of the letters are missing which are given in that order as one of the alternative below, choose the correct alternative-
aa _bbc_ aa _bbcc
abbc caa _bb_ c
- A. acbccac
B. acbbccac
C. acbacab
D. acbacac

5. गंगा, यमुना, सरस्वती, कोसी तथा सोन पांच नदियाँ हैं-
गंगा यमुना की अपेक्षा छोटी है, परंतु सोन से बड़ी है।
यदि कोसी यमुना से कुछ छोटी है परन्तु गंगा से बड़ी है।
तो बड़ी से छोटी नदियों का क्रम होगा-
- A. सरस्वती > यमुना > कोसी > गंगा > सोन
B. यमुना > सरस्वती > कोसी > गंगा > सोन
C. सरस्वती > कोसी > यमुना > गंगा > सोन
D. सरस्वती > यमुना > गंगा > सोन > कोसी

6. दिए गए अक्षर श्रेणी में कुछ अक्षर लुप्त हैं, जो नीचे दिए गए विकल्पों में से एक के रूप में उसी क्रम में दिए गए हैं। सही विलुप्त चुनिए-
aa _bbc_ aa _bbcc
abbc caa _bb_ c
- A. acbccac
B. acbbccac
C. acbacab
D. acbacac

7. If
816 → Rose are Red (I)
2364 → I Like Red Colour (II)
517 → They are Good (III)
Then the numeric code for red and rose will be-
- A. 1, 6
B. 6, 8
C. 8, 1
D. 6, 1

7. यदि
816 → Rose are Red (I)
2364 → I Like Red Colour (II)
517 → They are Good (III)
है तो Rose और Red के लिए सांख्यांकिय कोड होगा-
- A. 1, 6
B. 6, 8
C. 8, 1
D. 6, 1

8. Complete the given series by finding the missing term-
0, 14, 78, 252, 620, —
- A. 2387
B. 2394
C. 2400
D. None of the above

8. दिए गए श्रेणी को विलुप्त पद ज्ञात कर पूर्ण कीजिए-
0, 14, 78, 252, 620, —
- A. 2387
B. 2394
C. 2400
D. उपरोक्त में से कोई नहीं

9.

10.

• • • • • Space For Rough Work / रफ कार्य के लिये जगह • • • • •

9. For the below Assertion [As] and Reason [R] choose the correct alternative-
- Assertion [As] : The Planning Commission of India mainly work to formulate the five year and annual plans of the country.
- Reason [R] : The planning Commission is a Constitutional body.
- A. Both [As] and [R] are true, and [R] is the correct explanation of [As].
- B. Both [As] and [R] are true, but [R] is not the correct explanation of [As].
- C. [As] is true, but [R] is false.
- D. [As] is false, but [R] is true.

10. In a family of six people Anil, Pallavi, Naveen, Sumant, Priyanka, Harika are sitting in two rows in equal number facing each other-
Naveen and Priyanka are neighbours sitting facing North.
Harika is sitting diagonally opposite to Naveen.
Pallavi is sitting to the left of Harika.
Priyanka is sitting facing Anil.
Which of the following three persons are sitting in either of the two rows?
- A. Harika, Priyanka, Naveen
- B. Pallavi, Anil, Harika
- C. Pallavi, Naveen, Priyanka
- D. Harika, Suman, Pallavi

9. नीचे दिए गए प्रश्न में एक कथन [As] और एक कारण [R] दिया गया है। उनके लिए सही विकल्प का चुनाव करें-
- कथन [As] : भारत का योजना आयोग मुख्यतः देश की पंचवर्षीय तथा वार्षिक योजना निरूपण का कार्य करता है।
- कारण [R] : योजना आयोग एक संवैधानिक निकाय है।
- A. [As] और [R] दोनों सत्य हैं, और [R], [As] की उचित व्याख्या कर रहा है।
- B. [As] और [R] दोनों सत्य हैं, लेकिन [R], [As] की उचित व्याख्या नहीं कर रहा है।
- C. [As] सत्य है, लेकिन [R] असत्य है।
- D. [As] असत्य है, लेकिन [R] सत्य है।

10. छः लोगों के एक परिवार में अनिल, पल्लवी, नवीन, सुमंत, प्रियंका, हरिका दो पंक्तियों में बराबर संख्या में एक-दूसरे की ओर मुख करके बैठे हैं। नवीन और प्रियंका पड़ोसी हैं जो उत्तर की ओर मुख करके बैठे हैं।
हरिका नवीन के विकर्णवत सम्मुख बैठी है।
पल्लवी हरिका के बाईं ओर बैठी है।
प्रियंका अनिल के सम्मुख बैठी है।
निम्नलिखित में से कौन-से तीन व्यक्ति दोनों पंक्तियों में से किसी एक पंक्ति में बैठे हैं?
- A. हरिका, प्रियंका, नवीन
- B. पल्लवी, अनिल, हरिका
- C. पल्लवी, नवीन, प्रियंका
- D. हरिका, सुमन, पल्लवी

• • • * * * Space For Rough Work / रफ कार्य के लिये जगह * * * * *

11. Statement : Heavy unseasonal rains during the last two day's have disrupted normal life in the State. Five people have died in this, but it brought a lot of relief in the problem of sever water crisis in the State.

Proceedings :

- (I) The State Govt. should form a committee to review this critical situation.
 (II) The Govt. should immediately remove all restriction on the use of drinking water in all major cities of the State.
 (III) The State Govt. should send relief materials to all the affected areas in the State.

- A. I & II
 B. I & III
 C. II & III
 D. I, II & III

11. कथन : पिछले दो दिनों के दौरान भारी बेमौसम बरसात ने राज्य में सामान्य जनजीवन ठप कर दिया है। इसमें पांच लोगों की मृत्यु हो गई, किन्तु इससे राज्य में भारी जल संकट की समस्या में बहुत राहत हुई है।

कार्यवाहियाँ :

- (I) इस संकटभरी परिस्थिति की समीक्षा के लिए राज्य सरकार को एक समिति का गठन करना चाहिए।
 (II) राज्य के सभी प्रमुख शहरों में पेयजल के प्रयोग संबंधी सभी प्रतिबंध सरकार को तुरंत हटा देना चाहिए।
 (III) राज्य में सभी प्रभावित क्षेत्रों में राज्य सरकार को राहत सामग्री भेजनी चाहिए।

- A. I और II
 B. I और III
 C. II और III
 D. I, II और III

12. Arrange the words in the given question as per the dictionary and select the correct code-

- (I) Sale
 (II) Selection
 (III) Selfish
 (IV) Seldom
 (V) Sender

- A. I, II, III, V, IV
 B. I, II, V, III, IV
 C. I, II, III, IV, V
 D. I, IV, II, III, V

12. दिए गए प्रश्न में शब्दों को शब्दकोश के अनुसार सजाइए तथा सही कूट का चयन कीजिए-

- (I) Sale
 (II) Selection
 (III) Selfish
 (IV) Seldom
 (V) Sender

- A. I, II, III, V, IV
 B. I, II, V, III, IV
 C. I, II, III, IV, V
 D. I, IV, II, III, V

• • • • • Space For Rough Work / रफ कार्य के लिये जगह • • • • •

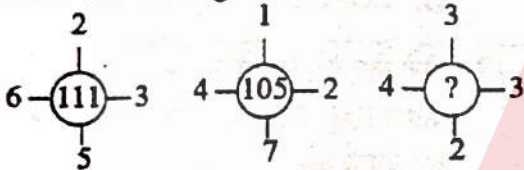
13. Find the missing term in the given letter series.
A, C, G, M, ?
A. V
B. U
C. R
D. S

13. दिए गए अक्षर श्रेणी में विलुप्त पद को ज्ञात कीजिए।
A, C, G, M, ?
A. V
B. U
C. R
D. S

14. Find out the wrong term in the given series.
220, 108, 56, 24, 10, 3
A. 108
B. 56
C. 24
D. 3

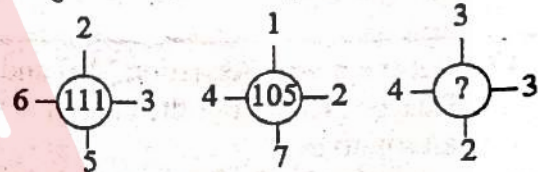
14. दिए गए श्रेणी में गलत पद को ज्ञात कीजिए।
220, 108, 56, 24, 10, 3
A. 108
B. 56
C. 24
D. 3

15. Find the missing term-



- A. 100
B. 92
C. 57
D. 54

15. विलुप्त पद को ज्ञात कीजिए-



- A. 100
B. 92
C. 57
D. 54

16. As a student is related to the class, similarly a player is related to what?
A. Coach
B. Stadium
C. Play
D. Match

16. जिस प्रकार विद्यार्थी का संबंध कक्षा से है, उसी प्रकार खिलाड़ी का संबंध किससे है?
A. कोच
B. स्टेडियम
C. खेल
D. मैच

• • • ⊗ ⊗ Space For Rough Work / रफ कार्य के लिये जगह ⊗ ⊗ • • •

17. If 'Pen' is 'Bed', 'Bed' is 'Fan', 'Fan' is 'Chair', and "Chair" is 'Roof' on what is man sleep?
- A. Pen
B. Bed
C. Fan
D. Chair
17. यदि 'Pen' 'Bed' है, 'Bed' 'Fan' है, 'Fan', 'Chair' है और 'Chair' 'Roof' है, तो आदमी किस पर सोता है?
- A. Pen
B. Bed
C. Fan
D. Chair
-
18. If "ORBIT" is written as "TWGNY" in a code language then how will "GLAXY" be written in the same language?
- A. LQGCD
B. LQFDC
C. LQFCD
D. LQFBD
18. यदि किसी साकेंतिक भाषा में "ORBIT" को "TWGNY" लिखा जाता है, तो "GLAXY" को उसी भाषा में कैसे लिखा जाएगा?
- A. LQGCD
B. LQFDC
C. LQFCD
D. LQFBD
-
19. For the below Assertion [As] and Reason [R]. choose the correct alternative-
Assertion [As] : Earthworm is harmful for agriculture.
Reason [R] : Earthworm breaks down the soil into smaller pieces and makes it finer.
- A. Both [As] and [R] are true, and [R] is the correct explanation of [As].
B. Both [As] and [R] are true, but [R] is not the correct explanation of [As].
C. [As] is true, but [R] is false.
D. [As] is false, but [R] is true.
19. नीचे दिए गए प्रश्न में एक कथन [As] और एक कारण [R] दिया गया है। उनके लिए सही विकल्प का चुनाव करें-
कथन [As] : केंचुआ कृषि के लिए हानिकारक हैं
कारण [R] : केंचुआ भूमि के छोटे रूप में तोड़ता और इसे महीन बनाता है।
- A. [As] और [R] दोनों सत्य हैं, और [R], [As] की उचित व्याख्या कर रहा है।
B. [As] और [R] दोनों सत्य हैं, लेकिन [R], [As] की उचित व्याख्या नहीं कर रहा है।
C. [As] सत्य है, लेकिन [R] असत्य है।
D. [As] असत्य है, लेकिन [R] सत्य है।

• • • • • Space For Rough Work / रफ कार्य के लिये जगह • • • • •

20. If $3 \times 2 = 10$, $5 \times 4 = 18$, and $6 \times 5 = 22$ then $7 \times 6 = ?$
- A. 20
B. 26
C. 30
D. 42

20. यदि $3 \times 2 = 10$, $5 \times 4 = 18$, और $6 \times 5 = 22$ है तो $7 \times 6 = ?$
- A. 20
B. 26
C. 30
D. 42

21. If the 29th of a month is Friday. Then what day would be on the 5th of the same month?
- A. Monday
B. Tuesday
C. Wednesday
D. Friday

21. यदि किसी माह की 29 तारीख को शुक्रवार है, तो उसी माह की 5 तारीख को कौन सा दिन होगा?
- A. सोमवार
B. मंगलवार
C. बुधवार
D. शुक्रवार

22. Find the missing term-
A, Z, G, T, M, N, S, —, Y, B
- A. F
B. G
C. H
D. I

22. विलुप्त पद को ज्ञात कीजिए-
A, Z, G, T, M, N, S, —, Y, B
- A. F
B. G
C. H
D. I

23. Find the missing letter-

H	L	X
M	-	V
C	G	L

- A. N
B. P
C. R
D. M

23. विलुप्त अक्षर को ज्ञात कीजिए-

H	L	X
M	-	V
C	G	L

- A. N
B. P
C. R
D. M

• • • * * * Space For Rough Work / रफ कार्य के लिये जगह * * * * *

24. If A = 26, Z = 1, SUN = 20, then
CET = ?

- A. 26
- B. 30
- C. 32
- D. None of the above

24. यदि A = 26, Z = 1, SUN = 20, तो
CET = ?

- A. 26
- B. 30
- C. 32
- D. उपरोक्त में से कोई नहीं

25. Find the missing term-
382, 190, —, 46, 22, 10

- A. 88
- B. 90
- C. 92
- D. 94

25. विलुप्त पद को ज्ञात कीजिए-
382, 190, —, 46, 22, 10

- A. 88
- B. 90
- C. 92
- D. 94

26. When will both the hands of the clock
be in the same line between 10 and 11
O' clock?

- A. $10:54\frac{6}{11}$ O' clock
- B. $10:55\frac{6}{11}$ O' clock
- C. $10:21\frac{9}{11}$ O' clock
- D. A & C both

26. 10 और 11 बजे के बीच घड़ी की दोनों सुइयों का
एक ही रेखा में होंगी?

- A. $10:54\frac{6}{11}$ बजे
- B. $10:55\frac{6}{11}$ बजे
- C. $10:21\frac{9}{11}$ बजे
- D. A और C दोनों

27. Some groups of letters are given, all of which except one, share a common similarity while one is different, choose the odd one out-

- A. JL
- B. FT
- C. HO
- D. EZ

27. अक्षरों के कुछ समूह दिए गए हैं, जिनमें से एक को छोड़कर सभी में समानता है जबकि एक निम्न है। विषम को चुनिए-

- A. JL
- B. FT
- C. HO
- D. EZ

28. Choose the number pair which is different from other-

- A. 181-48
- B. 170-55
- C. 131-42
- D. 80-25

28. उस अंक जोड़ी को चुनिए जो दूसरों से अलग है-

- A. 181-48
- B. 170-55
- C. 131-42
- D. 80-25

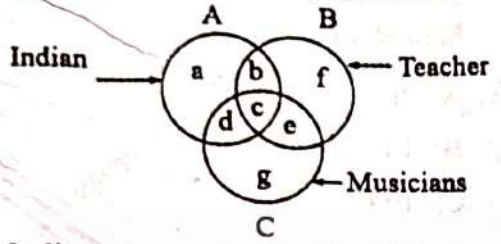
29. Choose the one which is different from the rest three-

- A. 71
- B. 57
- C. 37
- D. 17

29. उसे चुनिए जो बाकी तीन से भिन्न है-

- A. 71
- B. 57
- C. 37
- D. 17

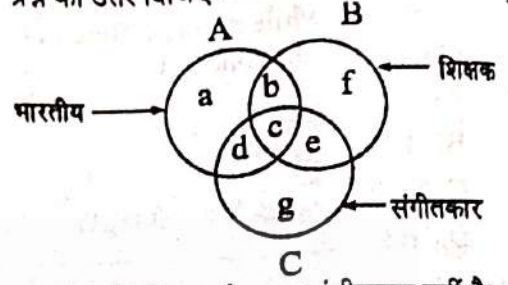
30. Study the following figure carefully and answer the given questions-



Indian who are teacher but not musicians.

- A. b
- B. c
- C. d
- D. g

30. निम्नांकित चित्र का अध्ययन किजिए एवं दिए गए प्रश्न का उत्तर दिजिए-



भारतीय जो शिक्षक है परन्तु संगीतकार नहीं है।

- A. b
- B. c
- C. d
- D. g

31.

PART - II

General Knowledge

सामान्य ज्ञान

31. For the below Assertion [As] and Reason [R], choose the correct alternative-
 Assertion [As] : NEP 2020 recommends *Yoga* Education as a means to promote holistic development and well-being.
 Reason [R] : *Yoga* Education focuses Solely on physical postures and breathing techniques.
- A. Both [As] and [R] are true, and [R] is the correct explanation of [As].
 B. Both [As] and [R] are true, but [R] is not the correct explanation of [As].
 C. [As] is true, but [R] is false.
 D. [As] is false, but [R] is true.

31. नीचे दिए गए अभिकथन [As] एवं कारण [R] के लिए सही विकल्प चुनिए-
 अभिकथन [As] : राष्ट्रीय शिक्षा नीति 2020 योग शिक्षा को समग्र विकास और कल्याण को बढ़ावा देने के साधन के रूप में अनुशंसा करती है।
 कारण [R] : योग शिक्षा केवल शारीरिक मुद्राओं (आसनों) और श्वास तकनीकों पर केन्द्रित है।
- A. दोनों [As] एवं [R] सत्य हैं, और [R], [As] का सही कारण है।
 B. दोनों [As] एवं [R] सत्य हैं, लेकिन [R], [As] का सही कारण नहीं है।
 C. [As] सत्य है, लेकिन [R] असत्य है।
 D. [As] असत्य है, लेकिन [R] सत्य है।

Adda247

32. Match the following from List - I and List - II.

- | <u>List - I</u> | <u>List - II</u> |
|-------------------------------------|------------------------|
| (a) University Education Commission | (I) Dr. D. S. Kothari |
| (b) National Knowledge Commission | (II) Sam Pitroda |
| (c) Education Commission | (III) Dr. L. Mudaliar |
| (d) Secondary Education Commission | (IV) Dr. Radhakrishnan |

Choose the correct answer from the options given below-

- A. a-IV, b-II, c-I, d-III
 B. a-I, b-II, c-III, d-IV
 C. a-III, b-IV, c-II, d-I
 D. a-II, b-I, c-III, d-IV

32. सूची - I को सूची - II के साथ सुमेलित करें-

- | <u>सूची - I</u> | <u>सूची - II</u> |
|-------------------------------|------------------------|
| (a) विश्वविद्यालय शिक्षा आयोग | (I) डॉ. डी. एस. कोठारी |
| (b) राष्ट्रीय ज्ञान आयोग | (II) सैम पित्रोदा |
| (c) शिक्षा आयोग | (III) डॉ. एल. मुदलियार |
| (d) माध्यमिक शिक्षा आयोग | (IV) डॉ. राधाकृष्णन |

नीचे दिए गए विकल्पों में से सही उत्तर चुनें-

- A. a-IV, b-II, c-I, d-III
 B. a-I, b-II, c-III, d-IV
 C. a-III, b-IV, c-II, d-I
 D. a-II, b-I, c-III, d-IV

33.

34

• * * * * Space For Rough Work / रफ कार्य के लिये जगह * * * * *

33. Direction : For the below Assertion [As] and Reason [R] choose the correct alternative-
- Assertion [As] : There has been huge increase in the frequency of water inundation and floods in the *Brahmaputra* Plaine.
- Reason [R] : The slope of the *Brahmaputra* Plaine is very slow.
- A. Both [As] and [R] are true, and [R] is the correct explanation of [As].
- B. Both [As] and [R] are true, but [R] is not the correct explanation of [As].
- C. [As] is true, but [R] is false.
- D. [As] is false, but [R] is true.

33. निर्देश : नीचे दिए गए कथन [As] और कारण [R] के लिए सही विकल्प चुने-
- कथन [As] : ब्रह्मपुत्र मैदान में जल प्लावन तथा बाढ़ की आवृत्तियों में भारी वृद्धि हुई है।
- कारण [R] : ब्रह्मपुत्र मैदान की ढाल प्रवणता अत्यंत मंद है।
- A. [As] और [R] दोनों सही हैं, तथा [R], [As] की सही व्याख्या है।
- B. [As] और [R] दोनों सही हैं, परन्तु [R], [As] की सही व्याख्या नहीं है।
- C. [As] सही है, परन्तु [R] गलत है।
- D. [As] गलत है, परन्तु [R] सही है।

34. Which sector contributes the most (highest percentage) to the Gross Domestic Product of Chhattisgarh?
- A. Agriculture
- B. Manufacturing (Industries)
- C. Services
- D. All equally

34. छत्तीसगढ़ के सकल घरेलू उत्पाद में किस क्षेत्र का महत्वपूर्ण (सर्वाधिक %) योगदान है?
- A. कृषि
- B. विनिर्माण (उद्योग)
- C. सेवाएँ
- D. सभी का बराबर

35. Descending order of Indian States according to coal reserves is-

- (a) Jharkhand
- (b) Orisha
- (c) Chhattisgarh
- (d) Madhya Pradesh
- (e) West Bengal

- A. $c > a > b > d > e$
- B. $a > b > c > e > d$
- C. $b > d > a > e > c$
- D. $c > b > a > e > d$

35. कोयला भण्डारण के अनुसार भारतीय राज्यों का अवरोही क्रम है-

- (a) झारखण्ड
- (b) उड़ीसा
- (c) छत्तीसगढ़
- (d) मध्य प्रदेश
- (e) पश्चिम बंगाल

- A. $c > a > b > d > e$
- B. $a > b > c > e > d$
- C. $b > d > a > e > c$
- D. $c > b > a > e > d$

36. Choose the correct option for the Assertion [As] and Reason [R] given below-

Assertion [As] : The British established their first Factory in the South at Masulipatnam in 1611.

Reason [R] : The conditions were more favourable for the British in South India as they did not have to face any powerful Indian Government there.

- A. Both [As] and [R] are true, and [R] is the correct explanation of [As].
- B. Both [As] and [R] are true, but [R] is not the correct explanation of [As].
- C. [As] is true, but [R] is false.
- D. [As] is false, but [R] is true.

36. नीचे दिए गए कथन [As] और कारण [R] के लिए सही विकल्प चुनें-

कथन [As] : अंग्रेजों ने दक्षिण में अपनी पहली फैक्टरी मसुलीपट्टनम में 1611 में स्थापित की।

कारण [R] : दक्षिण भारत में परिस्थितियां अंग्रेजों के अधिक अनुकूल थीं, वहां उन्हें किसी शक्तिशाली भारतीय सरकार का सामना नहीं करना पड़ा।

- A. [As] तथा [R] दोनों सत्य हैं, तथा [R], [As] की सही व्याख्या करता है।
- B. [As] तथा [R] दोनों सत्य हैं, किंतु [R], [As] की सही व्याख्या नहीं करता है।
- C. [As] सत्य है, किंतु [R] असत्य है।
- D. [As] असत्य है, किंतु [R] सत्य है।

37. Arrange the following events in their correct order related to the development of the Banking System-

- (a) Establishment of *Avadh* Commercial Bank.
- (b) Establishment of the State Bank of India.
- (c) Nationalization of the Reserve Bank of India.
- (d) Nationalization of Banks.
- (e) Establishment of the Reserve Bank of India.

- A. e > a > c > b > d
- B. b > e > c > a > d
- C. a > e > c > b > d
- D. d > b > e > c > a

38. Which of the following soils of India is called 'Brick Soil'?

- A. Alluvium Soil
- B. Laterite Soil
- C. Black Soil
- D. Red Soil

37. निम्नलिखित घटनाओं को उनके सही क्रम से लगाइए, जो भारत में बैंकिंग प्रणाली के विकास से संबंधित है-

- (a) अवध कमर्शियल बैंक की स्थापना।
- (b) स्टेट बैंक ऑफ इंडिया की स्थापना।
- (c) रिज़र्व बैंक ऑफ इंडिया का राष्ट्रीयकरण।
- (d) बैंकों का राष्ट्रीयकरण।
- (e) भारतीय रिज़र्व बैंक की स्थापना।

- A. e > a > c > b > d
- B. b > e > c > a > d
- C. a > e > c > b > d
- D. d > b > e > c > a

38. भारत की निम्नलिखित मिट्टियों में से किसे 'ईट मृदा' कहते हैं?

- A. जलोढ़ मृदा
- B. लेटेराइट मृदा
- C. काली मृदा
- D. लाल मृदा

• • • * * * Space For Rough Work / रफ कार्य के लिये जगह * * * * *

39. Which statement is correct regarding the joint session of Parliament?
- (I) The President calls a joint sitting of both the houses.
 (II) The Speaker of the *Lok Sabha* presides over the joint sitting.
 (III) In the absence of speaker of *Lok Sabha* the Deputy Speaker presides over the joint sitting.
 (IV) In case of both the Speaker and Deputy Speaker of *Lok Sabha* is absent the Deputy Speaker of *Rajya Sabha* will preside over the joint sitting.
- A. Only I
 B. Only I and II
 C. I, II and III
 D. All of the above

39. संसद के संयुक्त बैठक के संबंध में कौन सा कथन सही है?
- (I) राष्ट्रपति दोनों सदनों की संयुक्त बैठक बुलाते हैं।
 (II) संयुक्त बैठक की अध्यक्षता लोकसभा क स्पीकर करता है।
 (III) लोकसभा स्पीकर की अनुपस्थिति में लोकसभा का उपाध्यक्ष संयुक्त बैठक की अध्यक्षता करेगा।
 (IV) लोकसभा के अध्यक्ष व उपाध्यक्ष की अनुपस्थिति में राज्यसभा का उपसभापति बैठक की अध्यक्षता करेगा।
- A. केवल I
 B. केवल I और II
 C. I, II और III
 D. उपरोक्त में से सभी

40. Make the correct pair-

Column - I (Disease)	Column - II (Affected Organ)
(I) Diphtheria	(a) Liver
(II) Jaundice	(b) Bones
(III) Rickets	(c) Nervous system and muscles
(IV) Tetanus	(d) Throat and Respiratory tract

Choose the correct answer from the options given below-

- A. I-a, II-b, III-c, IV-d
 B. I-d, II-a, III-b, IV-c
 C. I-b, II-c, III-d, IV-a
 D. I-c, II-d, III-a, IV-b

40. सही जोड़ी बनाइये-

कालम - I (रोग)	कालम - II (प्रभावित अंग)
(I) डिफ्थीरिया	(a) यकृत
(II) पीलिया	(b) हड्डियाँ
(III) रिकेट्स	(c) तंत्रिका तंत्र एवं मांसपेशी
(IV) टिटेनस	(d) गला एवं श्वासन

नीचे दिए गए विकल्पों में से सही उत्तर चुनें-

- A. I-a, II-b, III-c, IV-d
 B. I-d, II-a, III-b, IV-c
 C. I-b, II-c, III-d, IV-a
 D. I-c, II-d, III-a, IV-b

• • • • • Space For Rough Work / रफ कार्य के लिये जगह • • • • •

41. Match the following-

Column - I	Column - II
(a) Parliamentary Privilege	(I) Article 75
(b) Constitutional amendment bill	(II) Article 352
(c) Appointment of Prime Minister	(III) Article 368
(d) National emergency	(IV) Article 105

Choose the correct answer from the options given below-

- A. a-III, b-IV, c-I, d-II
 B. a-IV, b-III, c-II, d-I
 C. a-IV, b-III, c-I, d-II
 D. a-II, b-III, c-IV, d-I

41. सुमेलित कीजिए-

कालम - I	कालम - II
(a) संसदीय विशेषाधिकार	(I) अनुच्छेद 75
(b) संविधान संशोधन विधेयक	(II) अनुच्छेद 352
(c) प्रधानमंत्री की नियुक्ति	(III) अनुच्छेद 368
(d) राष्ट्रीय आपतकाल	(IV) अनुच्छेद 105

- नीचे दिए गए विकल्पों में से सही उत्तर चुनें-
- A. a-III, b-IV, c-I, d-II
 B. a-IV, b-III, c-II, d-I
 C. a-IV, b-III, c-I, d-II
 D. a-II, b-III, c-IV, d-I

42. What is a key benefit of sports-integrated learning, as emphasized in NEP 2020?

- A. Improved Academic Performance
 B. Development of life-skills like teamwork and discipline
 C. Reduced focus on academics
 D. Enhanced creativity and problem-solving skills

42. खेल-एकीकृत अधिगम का मुख्य लाभ क्या है, जैसा कि NEP 2020 (राष्ट्रीय शिक्षा नीति 2020) में इसे जोर दिया गया है?

- A. बेहतर शैक्षणिक प्रदर्शन
 B. टीमवर्क और अनुशासन जैसे जीवन कौशलों का विकास
 C. शैक्षणिक कार्यों में कम ध्यान
 D. रचनात्मकता और समस्या-समाधान कौशलों में वृद्धि

43. Who is the author of "Who were the Shudras"?

- A. Mahatma Gandhi
 B. Vinayak Damoder Savarkar
 C. Dr. Babasaheb Ambedkar
 D. Pt. Sundarlal Sharma

43. "शुद्र कौन थे" यह किसकी रचना है?

- A. महात्मा गांधी
 B. विनायक दामोदर सावरकर
 C. डॉ. बाबासाहेब अम्बेडकर
 D. पंडित सुन्दरलाल शर्मा

• * * * * * Space For Rough Work / रफ कार्य के लिये जगह * * * * *



44. Whose autobiography is "The Indian Struggle"?

- A. Mahatma Gandhi
- B. Jawaharlal Nehru
- C. Subhash Chandra Bose
- D. Dr. Rajendra Prasad

44. "दि इंडियन स्ट्रगल" किसकी आत्मकथा है?

- A. महात्मा गांधी
- B. जवाहरलाल नेहरू
- C. सुभाष चन्द्र बोस
- D. डॉ. राजेन्द्र प्रसाद

45. Who discovered Electron?

- A. J. J. Thomson
- B. Copernicus
- C. Galileo
- D. J. B. Narlikar

45. इलेक्ट्रॉन की खोज किसने की थी?

- A. जे. जे. थामसन
- B. कापरनिकस
- C. गैलीलियो
- D. जे. बी. नालींकर

46. Sequence the following stages in the correct order for promoting value education in schools as per NCF 2023-

- (a) Encouraging critical thinking and reflection.
- (b) Building a value-based school culture.
- (c) Integrating values into the curriculum.
- (d) Assessing student learning and progress.

- A. c, a, b, d
- B. b, a, c, d
- C. b, c, a, d
- D. a, c, b, d

46. NCF 2023 के अनुसार स्कूलों में मूल्य शिक्षा बढ़ावा देने के लिए निम्नलिखित चरणों को सही क्रम में क्रमबद्ध करें-

- (a) आलोचनात्मक सोच और चिंतन को प्रोत्साहित करना।
- (b) मूल्य-आधारित स्कूल संस्कृति का निर्माण करना।
- (c) पाठ्यचर्या में मूल्यों को एकीकृत करना।
- (d) विद्यार्थियों के सीखने एवं प्रगति का आकलन करना।

- A. c, a, b, d
- B. b, a, c, d
- C. b, c, a, d
- D. a, c, b, d

47. Yashpal Committee report is titled as-

- A. Education and National Development
- B. Learning without burden
- C. School without walls
- D. ICT in teacher education

48. Select the correct answer regarding the *Mukhyamantri Gram Sadak Evam Vikas Yojana*-

- (I) This scheme has been implemented in the State since April 23, 2011.
 - (II) It is 100% State-funded.
 - (III) Under this scheme, rural unemployed individuals are provided 100 days of employment.
 - (IV) Its management is based on Public Participation.
- A. I and III are correct.
 - B. I and II are correct.
 - C. II and III are correct.
 - D. II and IV are correct.

47. यशपाल समिति रिपोर्ट का शीर्षक है-

- A. शिक्षा और राष्ट्रीय विकास
- B. शिक्षा बिना बोझ के
- C. दीवार रहित विद्यालय
- D. अध्यापक शिक्षा में आई सी टी

48. मुख्यमंत्री ग्राम सड़क एवं विकास योजना के विषय में सही उत्तर का चयन कीजिए-

- (I) यह योजना राज्य में 23 अप्रैल 2011 से लागू है।
 - (II) यह शत प्रतिशत राज्यपोषित है।
 - (III) इसके अंतर्गत ग्रामीण बेरोजगारों को 100 दिनों का रोजगार दिया जाता है।
 - (IV) इसका प्रबंधन जन सहभागिता के आधार पर किया जाता है।
- A. I और III सही हैं।
 - B. I और II सही हैं।
 - C. II और III सही हैं।
 - D. II और IV सही हैं।

49. Arrange the following educational events in India as it happened (year-wise)-
1948-49, 1952-53, 1964-66, 2020
- (a) Indian Education Commission
(b) University Education Commission
(c) Secondary Education Commission
(d) National Education Policy
- A. b, c, a, d
B. a, b, c, d
C. c, a, b, d
D. b, a, c, d

49. निम्न शैक्षणिक घटनाओं को उनके घटने के क्रम में (वर्षानुक्रम) रखें-
1948-49, 1952-53, 1964-66, 2020
- (a) भारतीय शिक्षा आयोग
(b) विश्वविद्यालय शिक्षा आयोग
(c) माध्यमिक शिक्षा आयोग
(d) राष्ट्रीय शिक्षा नीति
- A. b, c, a, d
B. a, b, c, d
C. c, a, b, d
D. b, a, c, d

50. Arrange the following author's in the correct chronological order-
- (a) Banabhatta
(b) Kalhana
(c) Kalidas
(d) Patanjali
(e) Chanakya
- A. e → c → d → a → b
B. e → d → c → a → b
C. d → e → c → b → a
D. d → e → b → c → a

50. निम्नलिखित लेखकों को उनके कालानुक्रम अनुसार सही क्रम में जमाइए-
- (a) बाणभट्ट
(b) कल्हण
(c) कालिदास
(d) पतंजलि
(e) चाणक्य
- A. e → c → d → a → b
B. e → d → c → a → b
C. d → e → c → b → a
D. d → e → b → c → a

PART - III

Educational Interest

शिक्षण अभिरुचि

51. Which strategies should a teacher adopt in an inclusive classroom?
- Using the same curriculum material for all students.
 - Customizing teaching according to the learning needs of students.
 - Teaching specific students by seating them separately.
 - Using different assessment methods to motivate students.
- A. c and d only
B. b and c only
C. a and c only
D. b and d only

52. According to constructivist approach which of the following is crucial for constructing knowledge?
- Conditioning
 - Insight
 - Prior knowledge of the learner
 - Rote memorization

51. एक समावेशी कक्षा में शिक्षक को किन रणनीतियों को अपनाना चाहिए?
- सभी छात्रों के लिए एक ही पाठ्यक्रम सामग्री का उपयोग करना।
 - छात्रों की सीखने की आवश्यकताओं के अनुसार शिक्षण को अनुकूलित करना।
 - विशिष्ट छात्रों को अलग-अलग बैठाकर पढ़ाना
 - छात्रों को प्रोत्साहित करने के लिए भिन्न-भिन्न मूल्यांकन विधियों का उपयोग करना
- A. केवल c और d
B. केवल b और c
C. केवल a और c
D. केवल b और d

52. रचनावादी दृष्टिकोण के अनुसार इनमें से कौन सा ज्ञान निर्माण के लिए महत्वपूर्ण है?
- अनुकूलन
 - सूझ
 - विद्यार्थी का पूर्व ज्ञान
 - रटकर याद करना

53. Why is "Emotional Intelligence" important for teachers?
- To establish good communication with students
 - To understand and manage one's own emotions
 - To maintain a positive atmosphere in the classroom
 - All of the above

53. शिक्षकों के लिए "मनोवैज्ञानिक दक्षता" क्यों महत्वपूर्ण है? 5
- छात्रों के साथ अच्छा संवाद स्थापित करने लिए
 - अपनी भावनाओं को समझने और प्रबंधित करने के लिए
 - कक्षा में सकारात्मक वातावरण बनाए रखने के लिए
 - उपरोक्त सभी

54. Why is flexibility in teaching necessary?
- So that teaching can be done according to the learning pace of each student.
 - So that the teacher can continue his old strategies without changing them.
 - So that the teaching method can be changed according to the needs of the students.
 - So that every student gets the same experience. Whatever his learning style is.
- b and c only
 - c and d only
 - a and c only
 - a and d only

54. शिक्षण में लचीलापन क्यों आवश्यक है?
- ताकि प्रत्येक छात्र की सीखने की गति के अनुसार पढ़ाया जा सके।
 - ताकि शिक्षक अपनी पुरानी रणनीतियों को बिना बदले जारी रख सकें।
 - ताकि छात्रों की जरूरतों के अनुसार शिक्षण पद्धति बदली जा सके।
 - ताकि हर छात्र को एक जैसा अनुभव मिले चाहे उसकी सीखने की शैली कुछ भी हो।
- केवल b और c
 - केवल c और d
 - केवल a और c
 - केवल a और d

55. What can be an example of "Extrinsic Motivation"?

- A. Studying out of curiosity
- B. Being rewarded by the teacher
- C. Taking interest in learning new things
- D. Studying with self-motivation

55. "बाह्य प्रेरणा" का उदाहरण क्या हो सकता है?

- A. जिज्ञासावश पढ़ाई करना
- B. शिक्षक द्वारा इनाम दिया जाना
- C. नई चीजें सीखने में रुचि लेना
- D. स्व-प्रेरणा से अध्ययन करना

56. What are the objectives of the National Education Policy?

- A. Revamping the entire education system.
- B. Relating education to employment.
- C. Providing equal opportunities through education.
- D. Separating education from degrees.

56. राष्ट्रीय शिक्षा नीति के क्या उद्देश्य हैं?

- A. संपूर्ण शिक्षा तंत्र को नया रूप देना।
- B. शिक्षा को रोजगार से सम्बन्ध करना।
- C. शिक्षा द्वारा समान अवसर देना।
- D. शिक्षा को डिग्री से विच्छेदित करना।

57. Which of the following is not an e-learning platform?

- A. Coursera
- B. Udemy
- C. Netflix
- D. Khan Academy

57. निम्नलिखित में से कौन-सा ई-लर्निंग प्लेटफॉर्म नहीं है?

- A. कोर्सेरा
- B. उडेमी
- C. नेटफ्लिक्स
- D. खान अकादमी

• * * * * * Space For Rough Work / रफ कार्य के लिये जगह * * * * *

58. According to pedagogy, what will be the correct order of the following steps in the learning process?

- (a) Gaining experience
- (b) Going through cognitive process
- (c) Change in behavior
- (d) Giving feedback
- (e) Attention

- A. a → c → b → d → e
- B. a → e → b → c → d
- C. a → c → d → b → e
- D. c → a → b → d → e

59. Which are the major socialization agencies?

- (I) Community
- (II) Some social groups
- (III) Formal educational institutions
- (IV) Family

Choose the correct answer from the options given below-

- A. Only I
- B. Only I, II & III
- C. All I, II, III & IV
- D. Only I & II

58. शिक्षा शास्त्र के अनुसार अधिगम की प्रक्रिया में निम्नलिखित चरणों का सही क्रम क्या होगा?

- (a) अनुभव प्राप्त करना
- (b) संज्ञानात्मक प्रक्रिया से गुजरना
- (c) व्यवहार में परिवर्तन
- (d) प्रतिक्रिया देना
- (e) ध्यान देना

- A. a → c → b → d → e
- B. a → e → b → c → d
- C. a → c → d → b → e
- D. c → a → b → d → e

59. निम्नलिखित में से कौन सी समाजीकरण करने वाले प्रमुख अधिकरण (एजेन्सीस) हैं?

- (I) समुदाय
- (II) कुछ सामाजिक समूह
- (III) औपचारिक शैक्षणिक संस्थाएं
- (IV) परिवार

नीचे दिए गए विकल्पों में से सही उत्तर चुनें-

- A. केवल I
- B. केवल I, II और III
- C. सभी I, II, III और IV
- D. केवल I और II

60. NCF 2005 also gives importance to which curricular areas apart from various subjects-

- (I) Art Education
- (II) Health & Physical Education
- (III) Work & Education
- (IV) Education for peace

- A. Only I & IV
- B. Only I & III
- C. Only II, III & IV
- D. All I, II, III, IV

60. NCF 2005 विभिन्न विषयों के अलावा और किन पाठ्यचर्या क्षेत्रों को भी महत्व देता है?

- (I) कला शिक्षा
- (II) स्वास्थ्य और शारीरिक शिक्षा
- (III) काम और शिक्षा
- (IV) शांति के लिये शिक्षा

- A. केवल I और IV
- B. केवल I और III
- C. केवल II, III और IV
- D. सभी I, II, III, IV

61. What will be the correct order of adopting teaching methods in Pedagogy?

- (a) Planning the curriculum
- (b) Selection of teaching method
- (c) Teaching in the class
- (d) Taking feedback from students
- (e) Assessment & Evaluation

- A. a → b → c → d → e
- B. a → b → c → e → d
- C. e → b → c → d → a
- D. a → c → b → d → e

61. शिक्षा शास्त्र में शिक्षण विधियों को अपनाने का सही क्रम क्या होगा?

- (a) पाठ्यक्रम की योजना बनाना
- (b) शिक्षण विधि का चयन
- (c) कक्षा में शिक्षण कार्य
- (d) विद्यार्थियों की प्रतिक्रिया लेना
- (e) मूल्यांकन करना

- A. a → b → c → d → e
- B. a → b → c → e → d
- C. e → b → c → d → a
- D. a → c → b → d → e

62. Sanjay is good in studies but weak in reading and understanding letters and words, he has good mathematical understanding. Sanjay may suffer from which of the following disorder?

- A. Dyscalculia
- B. Dysgraphia
- C. Dyslexia
- D. Dysphasia

62. संजय पढ़ाई में अच्छा है, परन्तु अक्षरों और शब्दों को पढ़ने और समझने में कमजोर है, उसकी गणितीय समझ अच्छी है। संजय निम्नलिखित में से किस विकार से ग्रसित हो सकता है?

- A. डिसकैल्कुलिया
- B. डिसग्राफिया
- C. डिस्लेक्सिया
- D. डिसफेसिया

63. What else should a teacher teach his students besides knowledge?

- A. Relentless efforts to achieve the goal
- B. Do not lose control and balance even in adverse circumstances
- C. Good use of time
- D. All of these

63. एक शिक्षक को ज्ञान के अलावा अपने विद्यार्थियों को और क्या सिखाना चाहिए?

- A. लक्ष्य प्राप्ति के लिए अथक प्रयास
- B. विपरीत परिस्थितियों में भी संयम व संतुलन खोजना
- C. समय का सदुपयोग
- D. ये सभी

64. For the below Assertion [As] and Reason [R] choose the correct alternative-

Assertion [As] : Formative evaluation tends to accelerate the pace of learning.

Reason [R] : As against summative evaluation formative evaluation is highly reliable.

- A. Both [As] and [R] are true, and [R] is the correct explanation of [As].
 B. Both [As] and [R] are true, but [R] is not the correct explanation of [As].
 C. [As] is true, but [R] is false.
 D. [As] is false, but [R] is true.

64. नीचे दिए गए कथन [As] और कारण [R] के लिए सही विकल्प का चयन करें-

कथन [As] : रचनात्मक मूल्यांकन से सीखने की गति में तेजी आती है।

कारण [R] : योगात्मक मूल्यांकन के विपरीत रचनात्मक विकास अत्यधिक विश्वसनीय है।

- A. [As] और [R] दोनों सत्य हैं, और [R], [As] का सही स्पष्टीकरण है।
 B. [As] और [R] दोनों सत्य हैं, लेकिन [R], [As] का सही स्पष्टीकरण नहीं है।
 C. [As] सत्य है, किन्तु [R] गलत है।
 D. [As] गलत है, किन्तु [R] सत्य है।

65. Which of the following are the most influential factors of learning?

- (a) Government Policy
- (b) Motivation
- (c) Aptitude
- (d) Interest
- (e) Physical facilities

Choose the correct answer from the options given below-

- A. a, b and c only
- B. b, c and d only
- C. c, d and e only
- D. a, b and e only

65. निम्नलिखित में से कौन से सीखने के सबसे प्रभावशाली कारक हैं?

- (a) सरकारी नीति
- (b) प्रेरणा
- (c) अभिवृत्ति
- (d) रुचि
- (e) भौतिक सुविधाएँ

नीचे दिए गए विकल्पों में से सही उत्तर चुनें-

- A. केवल a, b और c
- B. केवल b, c और d
- C. केवल c, d और e
- D. केवल a, b और e

66. What factors should a teacher pay attention to in order to understand the diverse needs of students in teaching?

- (a) Learning pace of each student.
- (b) Individual interest and prior knowledge of students.
- (c) Emphasizing on teaching all students in the same way.
- (d) Changing the teaching style according to group and individual needs.

- A. a, d and c only
- B. a, b and d only
- C. d, b and c only
- D. a, c and d only

66. शिक्षण में छात्रों की विविध आवश्यकताओं को समझने के लिए शिक्षक को किन कारकों पर ध देना चाहिए?

- (a) प्रत्येक छात्र की सीखने की गति।
- (b) छात्रों की व्यक्तिगत रुचि और पूर्व ज्ञान।
- (c) सभी छात्रों को एक ही तरीके से पढ़ाने पर जोर देना।
- (d) समूह और व्यक्तिगत आवश्यकताओं के अनुसार शिक्षण शैली में परिवर्तन करना।

- A. केवल a, d और c
- B. केवल a, b और d
- C. केवल d, b और c
- D. केवल a, c और d

67. For the below Assertion [As] and Reason [R] choose the correct alternative-

Assertion [As] : Learning is a life long process.

Reason [R] : Learning to be useful must be linked with process.

- A. Both [As] and [R] are true, and [R] is the correct explanation of [As].
- B. Both [As] and [R] are true, but [R] is not the correct explanation of [As].
- C. [As] is true, but [R] is false.
- D. [As] is false, but [R] is true.

68. Which of the following statements best describe brainstorming method of teaching?

- A. Production of large number of ideas
- B. Small step presentation with feedback provided
- C. Content delivery in a lucid language
- D. Theme based interaction among participants

67. नीचे दिए गए कथन [As] और कारण [R] के लिए सही विकल्प का चयन कीजिए-

कथन [As] : सीखना एक जीवनभर चलने वाली प्रक्रिया है।

कारण [R] : सीखने को उपयोगी बनाने के लिए उसे प्रक्रिया से जोड़ा जाना चाहिए।

- A. [As] और [R] दोनों सत्य हैं, और [R], [As] का सही स्पष्टीकरण है।
- B. [As] और [R] दोनों सत्य हैं, लेकिन [R], [As] का सही स्पष्टीकरण नहीं है।
- C. [As] सत्य है, किन्तु [R] गलत है।
- D. [As] गलत है, किन्तु [R] सत्य है।

68. निम्नलिखित में से कौन-सा कथन शिक्षण की ब्रेनस्टॉर्मिंग पद्धति का सबसे अच्छा वर्णन करता है?

- A. बड़ी संख्या में विचारों का उत्पादन
- B. प्रदान की गई प्रतिक्रिया के साथ छोटे चरण की प्रस्तुति
- C. एक स्पष्ट भाषा में सामग्री वितरण
- D. प्रतिभागियों के बीच थीम आधारित बातचीत

69. Match the following-

<u>Column - I</u>	<u>Column - II</u>
(a) Lecture Method	(I) Learning by doing
(b) Demonstration Method	(II) Teacher-centered, focuses on delivery
(c) Project Method	(III) Students explore real-life problems
(d) Heuristic Method	(IV) Learning through discovery

Choose the correct answer from the options given below-

- A. a-II, b-I, c-III, d-IV
- B. a-II, b-III, c-I, d-IV
- C. a-I, b-II, c-IV, d-III
- D. a-II, b-I, c-IV, d-III

70. According to you how should class communication be?

- A. Difficult
- B. General
- C. Interesting
- D. Comprehensive

69. निम्नलिखित को सुमेलित कीजिए-

<u>कालम - I</u>	<u>कालम - II</u>
(a) व्याख्यान विधि	(I) करके सीख
(b) प्रदर्शन विधि	(II) शिक्षक-केन्द्रित वितरण पर। केन्द्रित कर
(c) परियोजना विधि	(III) छात्र वास्तविक जीवन की समस्याओं को पता लगाते।
(d) ह्यूरिस्टिक विधि	(IV) खोज के माध्यम से सीखना

नीचे दिए गए विकल्पों में से सही उत्तर चुनें-

- A. a-II, b-I, c-III, d-IV
- B. a-II, b-III, c-I, d-IV
- C. a-I, b-II, c-IV, d-III
- D. a-II, b-I, c-IV, d-III

70. आपके मतानुसार कक्षा संप्रेषण कैसा होना चाहिए?

- A. कठिन
- B. सामान्य
- C. रोचक
- D. व्यापक

71. Match the following-

<u>Column - I</u>		<u>Column - II</u>	
(a) Facilitator	(I)	Providing motivation and direction	
(b) Evaluator	(II)	Designing and using assessment tools	
(c) Counsellor	(III)	Helping learners construct knowledge	
(d) Leader	(IV)	Offering guidance on personal issues	

Choose the correct answer from the options given below-

- A. a-III, b-II, c-IV, d-I
- B. a-I, b-III, c-II, d-IV
- C. a-IV, b-I, c-III, d-II
- D. a-II, b-IV, c-I, d-III

71. निम्नलिखित को सुमेलित कीजिए-

<u>कालम - I</u>		<u>कालम - II</u>	
(a) सुविधा प्रदाता	(I)	प्रेरणा और दिशा प्रदान करना	
(b) मूल्यांकनकर्ता	(II)	मूल्यांकन उपकरण डिजाइन करना और उनका उपयोग करना	
(c) परामर्शदाता	(III)	शिक्षार्थियों को ज्ञान निर्माण में मदद करना	
(d) नेता	(IV)	व्यक्तिगत मुद्दों पर मार्गदर्शन प्रदान करना	

नीचे दिए गए विकल्पों में से सही उत्तर चुनें-

- A. a-III, b-II, c-IV, d-I
- B. a-I, b-III, c-II, d-IV
- C. a-IV, b-I, c-III, d-II
- D. a-II, b-IV, c-I, d-III

72. Assertion [As] : A person interested in teaching profession should master the teaching skills and methods.

Reason [R] : Teaching is not just a profession but both an art and science which requires knowledge, patience and proper teaching techniques.

Choose the correct answer from the following options-

- A. Both [As] and [R] are correct, and [R] is the correct explanation of [As].
- B. Both [As] and [R] are correct, but [R] is not the correct explanation of [As].
- C. [As] is correct, but [R] is wrong.
- D. [As] is wrong, but [R] is correct.

72. अभिकथन [As] : शिक्षण व्यवसाय में रुचि रखने वाले व्यक्ति को शिक्षण कौशल और विधियों में निपुणता प्राप्त करनी चाहिए।

कारण [R] : शिक्षण केवल एक पेशा नहीं, बल्कि एक कला और विज्ञान दोनों है, जिसमें ज्ञान, धैर्य और उचित शिक्षण तकनीकों की आवश्यकता होती है।

नीचे दिए गए विकल्पों में से सही उत्तर चुनें-

- A. दोनों [As] और [R] सही हैं, और [R], [As] का सही स्पष्टीकरण है।
- B. दोनों [As] और [R] सही हैं, और [R], [As] का सही स्पष्टीकरण नहीं है।
- C. [As] सही है, लेकिन [R] गलत है।
- D. [As] गलत है, लेकिन [R] सही है।

73. The sequence of elements in a classroom speech is-

- (a) Introduction
- (b) Description
- (c) Feedback
- (d) Clarification
- (e) Conclusion

- A. a, b, c, d, e
- B. b, a, c, e, d
- C. c, d, a, b, e
- D. a, b, e, c, d

73. कक्षा में भाषण के तत्वों का क्रम है-

- (a) प्रस्तावना
- (b) वर्णन
- (c) विवरण प्रतिक्रिया
- (d) स्पष्टीकरण
- (e) निष्कर्ष

- A. a, b, c, d, e
- B. b, a, c, e, d
- C. c, d, a, b, e
- D. a, b, e, c, d

• • • • • Space For Rough Work / रफ कार्य के लिये जगह • • • • •

74. Arrange in sequential order, the structure of understanding level of teaching-

- (a) Organisation
- (b) Exploration
- (c) Presentation
- (d) Assimilation
- (e) Recitation

- A. c, d, b, a, e
- B. b, c, d, a, e
- C. a, b, c, d, e
- D. d, a, b, c, e

74. शिक्षण की समझ के स्तर की संरचना को क्रमिक क्रम में व्यवस्थित करें-

- (a) संगठन
- (b) अन्वेषण
- (c) प्रस्तुतीकरण
- (d) आत्मसात
- (e) सस्वर पाठ

- A. c, d, b, a, e
- B. b, c, d, a, e
- C. a, b, c, d, e
- D. d, a, b, c, e

75. Match the following-

Column - I

Column - II

- (a) *Ramayana* (I) Jaydev
- (b) *Mahabharat* (II) Ravindranath Tagore
- (c) *Ashtapadi* (III) Vyas
- (d) *Geetanjali* (IV) Valmiki

Choose the correct answer from the options given below-

- A. a-IV, b-III, c-I, d-II
- B. a-IV, b-II, c-III, d-I
- C. a-III, b-II, c-I, d-IV
- D. a-I, b-II, c-III, d-IV

75. निम्नलिखित का मिलान कीजिए-

कालम - I

कालम - II

- (a) रामायण (I) जयदेव
- (b) महाभारत (II) रवींद्रनाथ टैगोर
- (c) अष्टपदी (III) व्यास
- (d) गीतांजली (IV) वाल्मिकी

नीचे दिए गए विकल्पों में से सही उत्तर चुनें-

- A. a-IV, b-III, c-I, d-II
- B. a-IV, b-II, c-III, d-I
- C. a-III, b-II, c-I, d-IV
- D. a-I, b-II, c-III, d-IV

76. What is required to measure the effectiveness of a teacher in the classroom?
- Student's feedback
 - Self-assessment during teaching
 - Improving teaching methods
 - All of the above

77. Arrange the skills required to be a successful teacher in the correct order-
- Command over the subject
 - Effective communication skills
 - Knowledge of teaching methods
 - Students' ability to understand
 - Continuous Self-Evaluation and Improvement
- a → c → b → d → e
 - c → a → d → b → e
 - c → e → d → b → a
 - e → a → d → b → c

78. Which of the following teaching methods is considered "child-centered"?
- Lecture Method
 - Question-Answer Method
 - Teaching-Learning Method
 - Textbook Method

76. कक्षा में शिक्षक की प्रभावशीलता को मापने के लिए क्या आवश्यक है?
- छात्रों की प्रतिक्रिया
 - शिक्षण के दौरान आत्म-मूल्यांकन
 - शिक्षण पद्धतियों में सुधार करना
 - उपरोक्त सभी

77. एक सफल शिक्षक बनने के लिए आवश्यक कौशलों को सही क्रम में व्यवस्थित करें-
- विषय पर पकड़
 - प्रभावी संचार कौशल
 - शिक्षण विधियों का ज्ञान
 - छात्रों की समझने की क्षमता
 - लगातार आत्म-मूल्यांकन और सुधार
- a → c → b → d → e
 - c → a → d → b → e
 - c → e → d → b → a
 - e → a → d → b → c

78. निम्नलिखित में से कौन-सी शिक्षण विधि "बाल केन्द्रित" मानी जाती है?
- व्याख्यान विधि
 - प्रश्नोत्तर विधि
 - शिक्षण-अधिगम विधि
 - पाठ्यपुस्तक विधि

79. By promoting and spreading education-

- A. Democracy is strengthened.
- B. There is a decrease in superstition.
- C. The rate of economic growth increases.
- D. All of this

79. शिक्षा के प्रचार एवं प्रसार से-

- A. लोकतंत्र मजबूत होता है।
- B. अंधविश्वास में कमी आती है।
- C. आर्थिक विकास की दर बढ़ती है।
- D. ये सभी

80. Which one of the following is an example of qualitative assessment?

- A. Multiple choice question paper
- B. Written examination
- C. Project work and presentation
- D. Giving numerical grades

80. निम्नलिखित में से कौन-सा एक गुणात्मक मूल्यांकन का उदाहरण है?

- A. बहुविकल्पीय प्रश्न पत्र
- B. लिखित परीक्षा
- C. परियोजना कार्य और प्रस्तुति
- D. संख्यात्मक ग्रेड देना

Adda247

PART - IV

हिन्दी

Hindi

81. कथन [As] तथा कारण [R] का परीक्षण कर सही विकल्प का चयन कीजिए-

कथन [As] : जब दो सामासिक पद अपने अवयवों से भिन्न वस्तु/व्यक्ति का बोध कराते हैं, तो बहुव्रीहि समास होता है।

कारण [R] : इसमें दोनों पद प्रधान होते हैं।

- A. दोनों [As] और [R] सही हैं, तथा [R], [As] की उचित व्याख्या करता है।
 B. दोनों [As] और [R] सही हैं, तथा [R], [As] की उचित व्याख्या नहीं करता है।
 C. [As] सही है, किन्तु [R] गलत है।
 D. [As] गलत है, किन्तु [R] सही है।

83. स्पर्श व्यंजन के त-वर्ग का सही अनुक्रम है-

- (a) त
 (b) न
 (c) थ
 (d) द
 (e) ध

दिए गए विकल्पों में से सही उत्तर का चयन कीजिए।

- A. $a > c > d > b > e$
 B. $b > a > c > d > e$
 C. $b > c > d > e > a$
 D. $a > c > d > e > b$

82. नीचे दी गई सूची में से लोकोक्तियों को पहचानिए-

- (J) अधजल गगरी छलकत जाए।
 (K) एक पंथ दो काजा।
 (L) आ बैल मुझे मारा।
 (M) काला अक्षर भैंस बराबरा।

नीचे दिए गए विकल्पों में से सही उत्तर का चयन कीजिए-

- A. J, K और L
 B. J, K और M
 C. K, L और M
 D. L, M और K

84. संज्ञा के प्रकारों में सम्मिलित नहीं है-

- A. कर्मवाचक
 B. व्यक्तिवाचक
 C. जातिवाचक
 D. भाववाचक

85. लोकोक्ति को उचित अनुक्रम में रखिए-

- (a) दोनों गए
- (b) माया मिली
- (c) दुविधा में
- (d) न राम

दिए गए विकल्पों में से सही उत्तर का चयन कीजिए।

- A. $a > b > c > d$
- B. $c > a > b > d$
- C. $b > c > d > a$
- D. $a > c > b > d$

88. सुमेलित कीजिए-

सूची - I
(समास)

- (a) अव्ययीभाव
- (b) कर्मधारय
- (c) द्विगु
- (d) द्वन्द्व

सूची - II
(उदाहरण)

- (I) पंचतत्व
- (II) भागदौड़
- (III) नीलकमल
- (IV) यथाशक्ति

नीचे दिए गए विकल्पों में से सही उत्तर चुनें-

- A. a-III, b-IV, c-II, d-I
- B. a-I, b-III, c-IV, d-II
- C. a-IV, b-III, c-I, d-II
- D. a-II, b-III, c-IV, d-I

86. 'मुहावरा' मूल रूप से किस भाषा का शब्द है?

- A. अरबी
- B. फारसी
- C. संस्कृत
- D. हिन्दी

89. नीचे दी गई सूची में से 'ऐश्वर्य' के विलोम शब्दों को पहचानिए-

- (J) कृपणता
- (K) विपन्नता
- (L) संपन्नता
- (M) अकर्मण्यता

नीचे दिए गए विकल्पों में से सही उत्तर का चयन कीजिए-

- A. केवल J और K
- B. केवल K और L
- C. L, M और K
- D. M, J और K

87. तद्भव शब्द है-

- A. पिता
- B. राजा
- C. आज्ञा
- D. किसान

90. 'अध्यादेश' का अर्थ होता है-
- A. पहले से दिया गया आदेश।
 - B. ऐसा आदेश जिसका अनुपालन अनिवार्य हो।
 - C. आदेश जो किसी विशेष समय तक ही लागू हो।
 - D. एक से अधिक बार दिया गया आदेश।



PART - V

English

अंग्रेजी

1. Arrange the following set of operations while using a thermometer in proper sequence-
- Place the bulb of the thermometer inside the patient's mouth, below the tongue for about 3 minutes.
 - Remove the thermometer from its tube and look at the column of mercury to make sure it stands a few degree below normal; shakedown the column of mercury.
 - Ask the patient to keep his mouth closed when the thermometer is in his mouth.
 - Put the thermometer back in its tube.
 - Remove the thermometer from his mouth and read the temperature.
- $a > c > d > b > e$
 - $a > b > d > c > e$
 - $b > a > c > e > d$
 - $b > c > a > e > d$

92. Match the following-

Column - I
(Words)

Column - II
(Antonyms)

- | | |
|--------------|----------------|
| (a) Hearsay | (I) clarified |
| (b) Obscured | (II) ascent |
| (c) Fall | (III) active |
| (d) Dormant | (IV) authentic |

Choose the correct answer from the options given below-

- a-IV, b-I, c-II, d-III
- a-III, b-II, c-IV, d-I
- a-II, b-III, c-IV, d-I
- a-III, b-I, c-II, d-IV

93. Identify the correctly spelt words from the following-

- separate
- seperate
- receive
- inspite of

Select the correct answer from the following options-

- a and c only
- a and b only
- a, c, d only
- b and d only

• • • • • Space For Rough Work / रफ कार्य के लिये जगह • • • • •

94. He ----- drink beer, now he drinks wine.
Fill in the blank with a suitable modal from the given options-
- could
 - had to
 - used to
 - ought to

95. If you want to film a scene in slow motion you run the camera twice as fast as usual, which sounds ridiculous but isn't. When a film camera is running at normal speed, it takes twenty-four pictures a second. When the film is run through the film-projector in the camera twenty-four pictures a second appear on the screen. This is because the camera which took the pictures and the projector which shows them run at the same speed. If you are filming in slow motion, however, the camera runs at twice the normal speed, yet, in spite of this, the projector which shows the film will run at the normal speed, and this means that the projector will show the film at half the speed at which it was photographed. On the screen everything appears at half the speed at which the camera recorded it when it was filmed. In other words, things will seem to be done in 'slow motion'.

For the below Assertion [As] and Reason [R] choose the correct alternative based on the given passage-

Assertion [As] : To film a scene in slow-motion camera is run twice as fast as usual.

Reason [R] : The camera which took the pictures and projector which shows them run at the same speed.

- Both [As] and [R] are true, and [R] is the correct explanation of [As].
- Both [As] and [R] are true, but [R] is NOT the correct explanation of [As].
- [As] is true, but [R] is false.
- [As] is false, but [R] is true.

96. I ----- my dinner an hour ago.
Insert a suitable verb selecting from the given options-

- have
- had
- have had
- had had

97. Identify which of the following is a countable noun?

- cloth
- rice
- cup
- cold

Test

Prime

By Adda247

Previous Year Papers PDF

PRACTICE MORE, SCORE HIGHER!



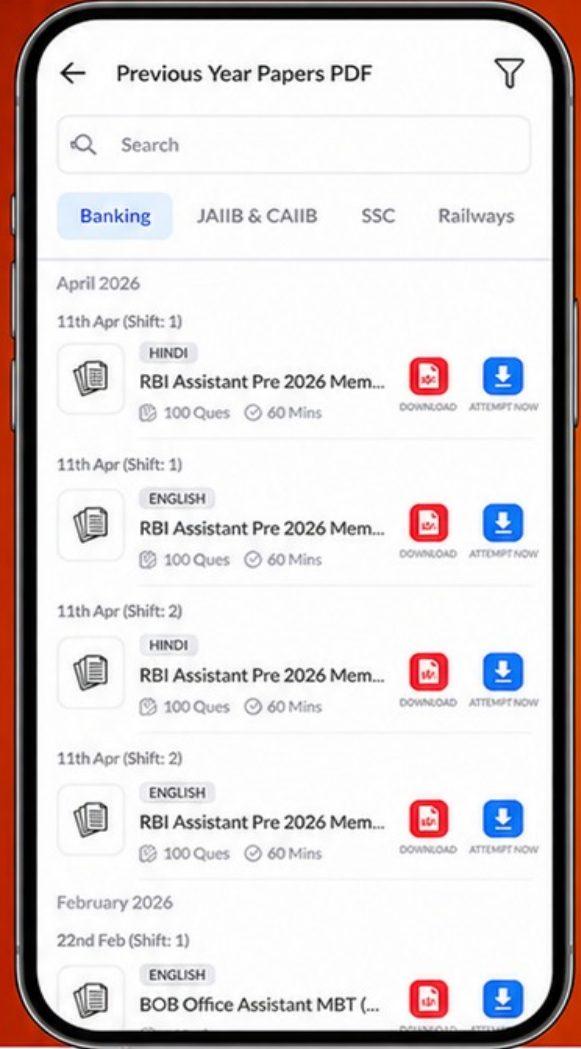
Free
25,000+
PDF's

High-Quality | Exam-Wise | Updated Regularly

ATTEMPT AS
MOCK



Turn PDFs into real exam experience.
Analyze. Improve. Succeed.



Topic-wise & Exam-wise PDFs



Download & Study Offline



Attempt as Mock & Track Score



Smart Analysis & Performance

AVAILABLE IN



Banking



SSC



Railway



Teaching



UGC



Agriculture



Nursing



Bihar



UP



Punjab



WB



Odisha



TN



AP & Telangana



Haryana



DOWNLOAD THE APP



98. Identify the sentences that correctly transform the following sentence in indirect speech.

'What did you eat for breakfast today?' The doctor asked the patient.

- (a) The doctor asked the patient what he ate for breakfast that day.
- (b) The doctor asked the patient what he had eaten for breakfast that day.
- (c) The doctor asked the patient what he ate for breakfast today.
- (d) The doctor asked to patient what did he eat for breakfast that day.

- A. a, b, c
- B. b and c only
- C. b and d only
- D. a and b only

99. He was greedy ----- money. Fill in the blank with a suitable preposition from the following choices-

- A. of
- B. for
- C. about
- D. at

100. Arrange the following sentences in proper sequence-

- (a) on phone
- (b) though he dialled frequently
- (c) and had left no information
- (d) my brother could not contact me
- (e) as I had gone out of office

Select correct answer from the options given below-

- A. b > d > a > e > c
- B. d > b > a > e > c
- C. e > b > d > a > c
- D. d > a > b > c > e