

Jharkhand B.Ed.

**Previous Year Paper
23 Oct, 2022**

Adda247

**Test
Prime**

By Adda247

ALL EXAMS, ONE SUBSCRIPTION



Test. Analyze. Improve. Repeat.



Don't just prepare. Perform.

Test Prime — built only for mock tests.



1,50,000+
Mock Tests



25,000+
Previous Year Papers



800+
Exam Covered



500% Refund
on Selection



5 lakh+
Free Quizzes



Daily
Free PDFs



Job Alerts
Stay Updated

- Multilingual
- Detailed Solution
- Strong and Weak Areas



**All India
Rankings**

Compete with lakhs.
Rank. Improve. Repeat.



← Adda247 test prime

Rating ▾

Editors' choice

New




Adda247 Test Prime
Adda Education • Education
Installed



DOWNLOAD THE APP



		Question Booklet Set प्रश्न पुस्तिका सेट	935494 प्रश्न पुस्तिका संख्या	Question Booklet No. प्रश्न पुस्तिका संख्या
अनुक्रमांक निर्धारित समय अधिकतम अंक	2 Hrs. 100	QUESTION BOOKLET 2022 प्रश्न पुस्तिका B		
B.Ed. COMBINED ENTRANCE COMPETITIVE EXAM – 2022				
GENERAL INSTRUCTIONS		सामान्य निर्देश		
Examinee is directed to read carefully the following instructions :		परीक्षार्थी को निम्नलिखित निर्देशों को ध्यान से पढ़ने के लिये निर्देशित किया जाता है :		
<ol style="list-style-type: none"> Examinee must write his/her Roll Number in the specified box on the top left hand corner of this page. Answers are required to be marked only on the Computerised O.M.R. Answer Sheet which is being provided to the examinee. Besides filling in the Roll Number, the examinee has to put his/her signature on the Answer Sheet and also fill other required details like Name, Roll Number, Question Booklet Code, etc. as indicated on the Answer OMR Sheet. If these details are not filled in by the examinee, his/her Answer Sheet will not be evaluated. For each question, there are four alternative answers, out of which only one is correct. Examinee must darken the circle of correct option in the Answer Sheet by Black Ball Pen only. In case of giving more than one option to a question, it will be counted as wrong answer and marks will be deducted accordingly. There are 24 (21+3) pages in this Question-Booklet including 1 page for General Instructions and two blank pages for Rough Work in the last. In case an examinee receives an incomplete or defective Question Booklet, he/she should make a request to the Room Invigilator to change the same within 10 minutes of start of the exam. This Question Booklet contains 100 questions from following subjects : B.Ed. Q. Nos. 1 – 100 Each question carries 1 mark and ¼ mark will be deducted for each wrong answer. In case of any discrepancy between the English and Hindi versions of any question, the English version will be treated as final/authentic. Possession and use of electronic devices such as Calculator, Cellular Phone, Digital Diary, Log Table, Pager etc., are restricted during the examination. Any leaf from the Question Booklet should not be detached. After the Examination, Answer-Sheet must be handed over to the Room Invigilator. During examination the examinee will not be allowed to leave the examination hall till the END of the Examination. Examinee can carry Question Booklet once the Examination is completed. 		<ol style="list-style-type: none"> परीक्षार्थी अपना अनुक्रमांक इस पृष्ठ के बायें हाथ के ऊपरी कोने पर दिये गये कोष्ठकों में अंकित करें। उत्तर केवल कम्प्यूटरीकृत ओ.एम.आर. उत्तर-पत्रक पर अंकित करना है, जो परीक्षार्थी को उपलब्ध कराया जा रहा है। अनुक्रमांक भरने के अलावा, परीक्षार्थी को उत्तर-पत्रक पर अपना हस्ताक्षर अंकित करना होगा। साथ ही अन्य आवश्यक विवरण जैसे - नाम, अनुक्रमांक, प्रश्न-पुस्तिका कोड इत्यादि को भरना होगा जैसा कि उत्तर ओ.एम.आर. पत्रक पर बताया गया है। यदि इन विवरणों को परीक्षार्थी ने नहीं भरा है तो उनके उत्तर-पत्रक का मूल्यांकन नहीं किया जायेगा। प्रत्येक प्रश्न के लिये, चार वैकल्पिक उत्तर दिये गये हैं, जिनमें से केवल एक ही सही है। परीक्षार्थी को केवल काले बॉल पेन से उत्तर पत्रक में सही विकल्प वाले चूत को काला करना है। एक प्रश्न के लिए एक से अधिक विकल्प देने पर उसकी गणना गलत उत्तर के रूप में की जायेगी एवं तदनुसार अंकों की कटौती की जायेगी। इस प्रश्न-पुस्तिका में 24 (21+3) पृष्ठ हैं जिसमें सामान्य निर्देशों के लिये 1 पृष्ठ और अंत में रफ काम के लिए दो खाली/सादे पृष्ठ शामिल हैं। अगर किसी परीक्षार्थी को अपूर्ण या दोषपूर्ण प्रश्न-पुस्तिका मिलती है, तो उसे परीक्षा शुरू होने के 10 मिनट के भीतर बदलने के लिए कमरे के पर्यवेक्षक से अनुरोध करें। इस प्रश्न-पुस्तिका में निम्नलिखित विषयों से 100 प्रश्न शामिल हैं : बी.एड. प्रश्न संख्या 1 – 100 प्रत्येक प्रश्न एक अंक का है और प्रत्येक गलत जवाब के लिए ¼ अंक काटा जायेगा। यदि किसी प्रश्न के हिन्दी तथा अंग्रेजी अनुवाद में कोई अंतर है, तो अंग्रेजी अनुवाद को ही सही समझा जायेगा। परीक्षा के दौरान इलेक्ट्रॉनिक उपकरणों जैसे कि कैलकुलेटर, सेल्युलर फोन, डिजिटल डायरी, लॉग टेबल, पेजर आदि को अपने पास रखना और उपयोग प्रतिबंधित है। प्रश्न-पुस्तिका में कोई भी पृष्ठ अलग नहीं करें। परीक्षा के बाद उत्तर-पत्रक कमरे के पर्यवेक्षक को अवश्य सौंप दें। परीक्षा के दौरान, परीक्षार्थी को परीक्षा के अन्त तक परीक्षा हॉल छोड़ने की अनुमति नहीं दी जायेगी। परीक्षा के समाप्त होने के पश्चात् परीक्षार्थी प्रश्न पुस्तिका ले जा सकते हैं। 		
Page No. 1		9BED		

SEAL



HINDI

1. _____ धातु वे हैं, जो किसी दूसरे शब्द से न बने हों।
A) यौगिक
B) प्रेरणार्थक
C) मूल
D) इनमें से कोई नहीं
2. प्रतिदिन, प्रतिपल, प्रत्यक्ष आदि शब्द _____ भाषा के अव्ययी भाव समास के उदाहरण है।
A) संस्कृत
B) हिन्दी
C) उर्दू
D) इनमें से कोई नहीं
3. _____ क्रिया अर्थ में अनुमतिबोधक क्रिया की विरोधिनी है।
A) अवकाशबोधक
B) आरंभबोधक
C) आवश्यकताबोधक
D) इनमें से कोई नहीं
4. वर्ण, शब्द और वाक्य के विचार से व्याकरण के मुख्य _____ विभाग होते हैं।
A) तीन
B) चार
C) पाँच
D) दो
5. _____ उन संस्कृत शब्दों को कहते हैं, जो प्राकृत भाषा बोलनेवालों के उच्चारण से बिगड़ते-बिगड़ते कुछ और ही रूप के हो गए हैं, जैसे बृच्छ, अग्याँ, मुँह, बंस इत्यादि।
A) तत्सम
B) तद्भव
C) अर्धतत्सम
D) इनमें से कोई नहीं
6. अनुकरणवाचक शब्द किसे कहते हैं ?
A) जो शब्द किसी संस्कृत मूल से निकले हुए नहीं जान पड़ते हैं
B) पदार्थ की यथार्थ अथवा कल्पित ध्वनि को ध्यान में रखकर जो शब्द बनाए गए हैं
C) फारसी, अरबी, तुर्की, अंग्रेजी आदि भाषाओं से जो शब्द हिन्दी में आए हैं
D) इनमें से कोई नहीं
7. शब्दों के पश्चात् जो अक्षर या अक्षरसमूह लगाया जाता है, उसे _____ कहते हैं।
A) अव्यय
B) उपसर्ग
C) प्रत्यय
D) इनमें से कोई नहीं



8. जिन वाक्यों में किसी काम के न करने या होने का कथन हो, उन्हें _____ वाक्य कहते हैं।
- A) निषेधवाचक
B) विधानवाचक
C) प्रश्नवाचक
D) संदेहवाचक
9. 'अब मुझसे दौड़ा नहीं जाता।' यह वाक्य _____ वाच्य का उदाहरण है।
- A) कर्तृ
B) कर्म
C) भाव
D) इनमें से कोई नहीं
10. 'संबद्ध' और 'अनुबद्ध' _____ अव्यय के दो प्रकार होते हैं।
- A) संबंधसूचक
B) समुच्चय बोधक
C) विस्मयादिबोधक
D) इनमें से कोई नहीं
11. क्रिया विशेषण किसे कहते हैं ?
- A) वस्तुओं के विषय में विधान करनेवाला शब्द
B) विधान करनेवाले शब्दों की विशेषता बतानेवाला शब्द
C) दो शब्दों या वाक्यों को मिलानेवाला शब्द
D) इनमें से कोई नहीं
12. '_____ ' शब्द का प्रयोग बहुधा किसी विषय के कुछ उदाहरणों के पश्चात् होता है।
- A) अमुक
B) अधिक
C) इत्यादि
D) इनमें से कोई नहीं
13. बाह्य प्रयत्न के अनुसार व्यंजनों के कितने भेद हैं ?
- A) तीन
B) दो
C) चार
D) पाँच
14. _____ विशेषण दो प्रकार से लिखे जाते हैं - (१) शब्दों में और (२) अंकों में।
- A) पूर्णांकबोधक
B) अपूर्णांकबोधक
C) गुणवाचक
D) सार्वनामिक
15. जो क्रिया विशेषण दूसरे शब्दों में प्रत्यय या शब्द जोड़ने से बनते हैं, उन्हें _____ क्रिया विशेषण कहते हैं।
- A) यौगिक
B) मूल
C) स्थानीय
D) इनमें से कोई नहीं



ENGLISH

16. Fill in the blank with suitable words from the alternatives given below them.

Arya is satisfied with neither profile _____ salary.

- A) yet
- B) and
- C) nor
- D) or

17. Choose the appropriate synonym of the given word from the alternatives given below them.

Fatigue ✓

- A) tiredness
- B) vigorous
- C) seize
- D) liberal

Read each sentence to find out whether there is any grammatical error or idiomatic expression in it. The error, if any, will be one part of the sentence. The option of that part is the answer. If there is no error, the answer is (D).

18. Neerav's love for everything Indian/

A) ✓

was eloquently demonstrated in his serve of tea to Lady Minto/

B)

who was on a visit to the Kashi temple/

C)

No error

D)

Direction (Q. No. 19 and 20) : Give Antonym of the given words from the alternatives given below them.

19. Abridge

- A) ✓ enlarge
- B) contract
- C) reduce
- D) shorten

20. Bliss

- A) ✓ sorrow
- B) happiness
- C) content
- D) cloud nine

21. Choose the appropriate synonym of the given word from the alternatives given below them.

Gluttony

- A) greediness
- B) honesty
- C) intolerant
- D) faithful

Direction (Q. No. 22 to 25) : Fill in the blanks with suitable words from the alternatives given below them.

22. Imagine _____ singing non-stop for 10 hours, belting out 100 songs.

- A) something
- B) none
- C) ✓ someone
- D) each



trust

23. The Victim had sustained _____ injuries when a three wheeler hit him from behind.
- A) bad
 - B) heinous
 - C) grievous
 - D) acute

24. The citizenry's distrust in institutions and lack of confidence in the government have caused a _____ slowdown.
- A) lengthy
 - B) continuous
 - C) prolonged
 - D) extended

25. The economic woes have weakened the delicate balance _____ the regime and its angry youth.
- A) into
 - B) between
 - C) among
 - D) within

Direction (Q. No. 26 to 28) : Fill in the blanks with suitable question tags from the alternatives given below them.

26. None of the food was wasted, _____ ?
- A) wasn't it
 - B) was it
 - C) weren't it
 - D) were it

27. Your father ^{used} to be the principal of this college, _____ ?

- A) did he
- B) does he
- C) didn't he
- D) doesn't he

28. This movie is directed by Steven Spielberg, _____ ?

- A) hasn't he
- B) hasn't it
- C) isn't it
- D) isn't he

Direction (Q. No. 29 and 30) : Fill in the blanks with suitable articles from the alternatives given below them.

29. None of _____ hostilities wanted to discuss matters relating to changes in the hostel manual.

- A) the
- B) a
- C) an
- D) no article

30. Dev suggested that, we should be bound by _____ code of conduct.

- A) a
- B) an
- C) the
- D) no article required



TEACHING APTITUDE

31. _____ is the degree to which a test measures what it is supposed to measure.
- A) Objectivity
B) Reliability
C) Validity
D) Usability
32. _____ means reinforcing each small step towards a desired goal or behaviour.
- A) Cuing
B) Positive practice
C) Prompting
D) Shaping
33. What will be the IQ of a 25 years old boy whose mental age is 16 ?
- A) 64
B) 75
C) 80
D) 100
34. For a teacher teaching a class with large strength, which of the following techniques is best ?
- A) Debate, discussions, practicals
B) Group work with a lecture
C) Lecture and class notes
D) Self-study and asking questions

B

Page No. 7

9BED

शिक्षण योग्यता

31. _____ वह डिग्री है जिससे एक परीक्षण मापता है कि उसे क्या मापना चाहिए।
- A) वस्तुनिष्ठता
B) विश्वसनीयता
C) वैधता
D) प्रयोज्यता
32. _____ का अर्थ है प्रत्येक छोटे कदम को वांछित लक्ष्य या व्यवहार की ओर मजबूत करता।
- A) क्यूइंग
B) सकारात्मक अभ्यास
C) संकेत
D) आकार देना
33. एक 25 वर्षीय लड़के का आईक्यू क्या होगा जिसकी मानसिक आयु 16 वर्ष है ?
- A) 64
B) 75
C) 80
D) 100
34. अधिक संख्या वाली कक्षा को पढ़ाने वाले शिक्षक के लिए कौन-सी तकनीक सबसे अच्छी है ?
- A) वाद-विवाद, चर्चा, व्यावहारिक
B) व्याख्यान के साथ समूह कार्य
C) व्याख्यान और कक्षा नोट्स
D) स्वाध्याय और प्रश्न पूछना



35. The concept of Socially Useful Productive Work (SUPW) was introduced by
- A) Adisheshaiah Committee
B) Ishwar Bhai Patel Review Committee
C) Ramamurthi Committee
D) Sampurnanand Committee
36. Emotional Adjustment of students is effective in
- A) Personality formation
B) Class-teaching
C) Discipline
D) All of the above
37. Black-board can be included in which group/category of teaching-aids ?
- A) Audio-aids
B) Visual-aids
C) Audio-visual aids
D) None of the above
38. Intrapersonal communication
- A) Entails communication with another person
B) Denotes communication within one's self that necessarily involves the processes of thinking and feeling
C) Is a process in which individuals connect with themselves either consciously or subconsciously
D) Both B) and C) only
35. सामाजिक रूप से उपयोगी उत्पादक कार्य (SUPW) के प्रणेता _____ थे।
- A) आदिशेषय्याह समिति
B) ईश्वर भाई पटेल समीक्षा समिति
C) राममूर्ति समिति
D) संपूर्णानंद समिति
36. छात्रों का भावनात्मक समायोजन _____ में प्रभावी होता है।
- A) व्यक्तित्व निर्माण
B) कक्षा-शिक्षण
C) अनुशासन
D) उपरोक्त सभी
37. शिक्षण-सहायक सामग्री के किस समूह/श्रेणी में ब्लैक-बोर्ड को शामिल किया जा सकता है ?
- A) ऑडियो-एड्स
B) विजुअल-एड्स
C) ऑडियो-विजुअल एड्स
D) उपरोक्त में से कोई नहीं
38. इंटरपर्सनल कम्युनिकेशन
- A) दूसरे व्यक्ति के साथ संचार अनिवार्य करता है
B) स्वयं के भीतर संचार को दर्शाता है जिसमें आवश्यक रूप से सोचने और महसूस करने की प्रक्रिया शामिल होती है
C) एक ऐसी प्रक्रिया है जिसमें व्यक्ति अपने आप से होशपूर्वक या अवचेतन रूप से जुड़ते हैं
D) केवल B) और C) दोनों



39. Authoritarian teaching strategy is

- A) Teacher centered
- B) Child-centered
- C) Headmaster centered
- D) Experience based

40. One of the important theories of moral development has been proposed by

- A) Laurence Kohlberg
- B) Erik Fromm
- C) Daniel Coleman
- D) Benjamin Bloom

41. Interpersonal communication

- A) Entails communication with another person
- B) Denotes communication within one's self that necessarily involves the processes of thinking and feeling
- C) Is a process in which individuals connect with themselves either consciously or subconsciously
- D) All of the above

42. The important ingredients of intrapersonal communication are

- A) Self-concept
- B) Perception
- C) Expectations
- D) All of the above

39. अधिकारवादी की शिक्षण विधि है

- A) शिक्षक केंद्रित
- B) बाल-केंद्रित
- C) प्रधानाध्यापक केंद्रित
- D) अनुभव आधारित

Confusion

40. नैतिक विकास के महत्वपूर्ण सिद्धांतों में से एक किसके द्वारा प्रस्तावित किया गया है ?

- A) लॉरेंस कोहलबर्ग
- B) एरिक फ्रॉम
- C) डैनियल कोलमैन
- D) बेंजामिन ब्लूम

41. पारस्परिक संचार

- A) दूसरे व्यक्ति के साथ संचार अनिवार्य करता है
- B) स्वयं के भीतर संचार को दर्शाता है जिसमें आवश्यक रूप से सोचने और महसूस करने की प्रक्रिया शामिल होती है
- C) एक ऐसी प्रक्रिया है जिसमें व्यक्ति अपने आप से होशपूर्वक या अवचेतन रूप से जुड़ते हैं
- D) उपरोक्त सभी

42. इंटरपर्सनल कम्युनिकेशन के महत्वपूर्ण तत्व है

- A) स्व-अवधारणा
- B) धारणा
- C) उम्मीदें
- D) उपरोक्त सभी



43. Self-concept
- A) Provides the basis for intrapersonal communication, because it governs how a person perceives one's self and is oriented towards other individuals
- B) Self-concept which can also be referred to as self-awareness
- C) Both A) and B) are correct
- D) None
44. Self-concept comprises of which of the following factors ?
- A) Beliefs
- B) Values
- C) Attitudes
- D) All of the above
45. Who became the first Minister of Education in the Independent India ?
- A) Maulana Abul Kalam Azad
- B) Dr. K. L. Shrimali
- C) Shri Humayun Kabir
- D) Shri M. C. Chagla
46. National University of Educational Planning and Administration (NUEPA) is mainly concerned with
- A) Educational supervision
- B) Educational unity
- C) Management in Education Policy
- D) Educational evaluation
43. स्व-अवधारणा
- A) इंटरपर्सनल संचार के लिए आधार प्रदान करता है, क्योंकि यह नियंत्रित करता है कि कोई व्यक्ति स्वयं को कैसे मानता है और अन्य व्यक्तियों की ओर उन्मुख होता है
- B) स्व-अवधारणा जिसे स्व-जागरूकता भी कहा जा सकता है
- C) A) और B) दोनों सही हैं
- D) कोई नहीं
44. स्व-अवधारणा में निम्नलिखित में से कौन-से कारक शामिल हैं ?
- A) विश्वास
- B) मूल्य
- C) अभिवृत्तियाँ
- D) उपरोक्त सभी
45. स्वतंत्र भारत में पहले शिक्षा मंत्री कौन थे ?
- A) मौलाना अबुल कलाम आज़ाद
- B) डॉ.के. एल. श्रीमाली
- C) श्री. हुमायूँ कबीर
- D) श्री. एम. सी. छागला
46. राष्ट्रीय शिक्षण योजना और प्रशासन विश्वविद्यालय (एन.यू.ई.पी.ए.) मुख्यतः _____ से संबंधित है।
- A) शैक्षिक पर्यवेक्षण
- B) शैक्षिक एकता
- C) शिक्षा नीति में प्रबंधन
- D) शैक्षिक मूल्यांकन



47. Students find/explore the solution themselves in.

- A) Interaction method
- B) Discovery method
- C) Both
- D) None

48. In which of the following list, education is transferred by 42nd Amendment Act, 1976 of Indian Constitution ?

- A) Central list
- B) Concurrent list
- C) State list
- D) None of the above lists

49. Which of the following is Doordarshan's Educational Television Channel ?

- A) Gurukul
- B) Gyan Bharati
- C) Gyan Darshan 1
- D) Vidya

50. Cause and effect relationships are established by _____ research methods.

- A) Clinical
- B) Comparative
- C) Developmental
- D) Experimental

47. विद्यार्थी _____ में अपने आप हल ढूँढते हैं ।

- (A) अंतरक्रिया विधि
- B) डिस्कवरी विधि
- C) दोनों
- D) कोई नहीं

48. निम्नलिखित में से किस सूची में, भारतीय संविधान के 42 वें संशोधन अधिनियम, 1976 द्वारा शिक्षा को स्थानांतरित किया गया है ?

- A) केंद्रीय सूची
- B) समवर्ती सूची
- C) राज्य सूची
- D) उपरोक्त सूची में से कोई नहीं

49. निम्नलिखित में से कौन दूरदर्शन का शैक्षिक टेलीविजन चैनल है ?

- A) गुरुकुल
- B) ज्ञान भारती
- C) ज्ञान दर्शन 1
- D) विद्या

50. कारण और प्रभाव संबंध _____ अनुसंधान विधियों द्वारा स्थापित किए गए हैं ।

- A) क्लिनिकल
- B) तुलनात्मक
- C) विकासात्मक
- D) प्रायोगिक

confuse



51. If your purpose is _____, group work is not a good idea.
- A) To improve coordination and sharing
B) Division of work and responsibility
C) To identify different aspects of a problem
D) To overcoming learning difficulties
52. Choice of a vocation depends on
- A) Ease of admission
B) Income generated by the occupation
C) Interest and skills of the learner
D) Subjects a student learnt at school
53. 'Generation gap' refers to
- A) Attitude of adults to teenagers
B) Difference in values of different age groups
C) Problems of teenagers
D) The growing awareness of adolescents
54. Why should a teacher be an idealist and set examples?
- A) Students do not have values
B) Students usually imitate teachers
C) Teacher is an adult
D) Teacher is a paternal figure
51. यदि आपका उद्देश्य _____ है, तो समूह कार्य एक अच्छा विचार नहीं है।
- A) समन्वय और साझाकरण में सुधार करना
B) कार्य और जिम्मेदारी का विभाजन
C) किसी समस्या के विभिन्न पहलुओं की पहचान करना
D) सीखने की कठिनाइयों पर काबू पाना
52. किसी व्यवसाय का चुनाव _____ पर निर्भर करता है।
- A) प्रवेश में आसानी
B) व्यवसाय से उत्पन्न आय
C) शिक्षार्थी की रुचि और कौशल
D) एक छात्र द्वारा स्कूल में सीखे गए विषय
53. पीढ़ीगत अंतर (जनरेशन गैप) _____ को संदर्भित करता है।
- A) किशोरों के प्रति वयस्कों के दृष्टिकोण
B) विभिन्न आयु समूहों के मूल्यों में अंतर
C) किशोरों की समस्याओं
D) किशोरों की बढ़ती जागरूकता
54. एक शिक्षक को आदर्शवादी बनकर उदाहरण क्यों स्थापित करना चाहिए ?
- A) छात्रों का मूल्य नहीं होता है
B) छात्र आमतौर पर शिक्षकों की नकल करते हैं
C) शिक्षक वयस्क होते हैं
D) शिक्षक पिता तुल्य होते हैं



55. How a teacher should behave with the students ?

- A) General
- B) Father
- C) Friend
- D) Leader

56. Young adolescents rebel to express

- A) External discipline imposed
- B) Their creativity
- C) Their desire for freedom
- D) Their personal inadequacy

57. _____ undertook the innovative project 'Lok Jumbish People's Movement for Education for All'.

- A) Bihar
- B) Madhya Pradesh
- C) Rajasthan
- D) Uttar Pradesh

58. A blackboard cannot be used for

- A) Improvement of a paragraph
- B) Making reports based on information
- C) Show schematic diagrams
- D) Summary of relationships between facts

55. एक शिक्षक को छात्रों के साथ कैसा व्यवहार करना चाहिए ?

- A) सामान्य
- B) पिता
- C) मित्र
- D) नेता

56. युवा किशोर अपने _____ को व्यक्त करने के लिए विद्रोह करते हैं ।

- A) पर लगाए गए बाहरी अनुशासन
- B) अपनी रचनात्मकता
- C) स्वतंत्रता की अपनी इच्छा
- D) अपनी व्यक्तिगत अपर्याप्तता

57. _____ ने अभिनव परियोजना 'लोक जुम्बिश पीपल्स मूवमेंट फॉर एजुकेशन फॉर ऑल' शुरू की ।

- A) बिहार
- B) मध्य प्रदेश
- C) राजस्थान
- D) उत्तर प्रदेश

58. _____ के लिए ब्लैकबोर्ड का उपयोग नहीं किया जा सकता है ।

- A) किसी पैराग्राफ में सुधार
- B) सूचना के आधार पर रिपोर्ट बनाने
- C) योजनाबद्ध आरेख दिखाने
- D) तथ्यों के बीच संबंधों का सारांश



59. The purpose of the textbook is to provide
- A) A learning material based on a syllabus to a learner
- B) A material to teachers to base teaching on
- C) A material forming the basis and content for examinations
- D) Reading and reference materials for the teachers
60. The aim of the Charter Act of 1813 was
- A) Government control on education
- B) To make English education common
- C) Promotion of education in Indian masses
- D) To spread education worldwide
61. Character is developed by
- A) Will-power
- B) Conduct and behaviour
- C) Morality
- D) All of the above
62. Who developed the interaction analysis category system in education for increasing the teacher effectiveness ?
- A) Flander
- B) Rayon
- C) Amidon and Simon
- D) Richard Over
59. पाठ्यपुस्तक का उद्देश्य _____ प्रदान करना है।
- ~~A)~~ एक शिक्षार्थी को पाठ्यक्रम पर आधारित शिक्षण सामग्री
- B) शिक्षकों को शिक्षण का आधार बनाने के लिए एक सामग्री
- C) परीक्षाओं के लिए आधार और विषय-वस्तु बनाने वाली सामग्री
- D) शिक्षकों को पठन और संदर्भ सामग्री
60. 1813 के चार्टर अधिनियम का उद्देश्य _____ था।
- A) शिक्षा पर सरकार का नियंत्रण
- ~~B)~~ अंग्रेजी शिक्षा को सामान्य बनाना
- C) भारतीय जनता में शिक्षा का प्रचार-प्रसार
- D) दुनिया भर में शिक्षा का प्रसार करना
61. चरित्र _____ द्वारा विकसित किया जाता है।
- A) इच्छा-शक्ति
- B) आचरण और व्यवहार
- C) नैतिकता
- ~~D)~~ उपरोक्त सभी
62. शिक्षक प्रभावशीलता को बढ़ाने के लिए शिक्षा में अंतःक्रिया विश्लेषण श्रेणी प्रणाली का विकास किसने किया ?
- ~~A)~~ फ्लैंडर
- B) रेयन
- C) एमिडॉन और साइमन
- D) रिचर्ड ओवर



63. The Father of Psychoanalysis is
- A) Erik H. Erikson
B) Jean Piaget
C) Jerorne S. Bruner
D) Sigmund Freud
64. You have an aggressive student in your class. Which of the following would you adopt to handle him?
- A) Allow him the opportunity to act aggressively
B) Explain him about the harmful consequences of aggression
C) Punish him
D) Put him in a highly frustrating and embarrassing situation
65. The proponent of the Cognitive Theory of Teaching is
- A) N. L. Gage
B) Shiv Kumar Mitra
C) B. F. Skinner
D) McDonald
66. Talking and indiscipline in classroom is an indication of
- A) Indiscipline students
B) Boredom caused by repetitiveness
C) Confusion about things taught
D) Not summarising lecture points

63. मनोविश्लेषण का जनक है
- A) एरिक एच. एरिकसन
B) जीन पियागेट
C) जेरोर्न एस. ब्रुनर
D) सिगमंड फ्रायड
64. आपकी कक्षा में एक आक्रामक छात्र है। आप उसे संभालने के लिए निम्नलिखित में से किसे अपनाएंगे ?
- A) उसे आक्रामक तरीके से कार्य करने का अवसर देंगे
B) उसे आक्रामकता के हानिकारक परिणामों के बारे में समझाएं
C) उसे दंडित करें
D) उसे बेहद निराशाजनक और शर्मनाक स्थिति में डाल दें
65. शिक्षण के संज्ञानात्मक सिद्धांत के प्रस्तावक _____ हैं।
- ~~con~~ A) एन. एल. गेज
B) शिव कुमार मित्रा
C) बी. एफ. स्किनर
D) मैकडॉनल्ड
66. कक्षा में बात करना और अनुशासनहीनता _____ का संकेत है।
- A) अनुशासनहीन छात्र
B) दोहराव के कारण बोरियत
C) सिखाई गई चीजों के बारे में भ्रम
D) व्याख्यान बिंदुओं का सारांश नहीं करना



67. You have a mixed class of boys and girls. Which method would you adopt to improve co-operation between them ?
- A) Asking parents to discuss equality
B) Making boys and girls share a bench
C) Setting tasks which have to be done together
D) Talking about equality in lessons
68. The major disadvantage of punishment in education is that
- A) It generates unpleasant feelings
B) It does not solve the problem permanently
C) It prevents team work
D) None of these
69. Which one of the following is the most important elements in teaching?
- A) Relationship between teachers and students
B) Subject matter
C) Teaching techniques and aids used
D) Student's knowledge
70. Inductive approach in teaching-learning process proceeds from
- A) Particular to general
B) Known to unknown
C) Simple to complex
D) All of the above
67. आपके पास लड़कों और लड़कियों के एक मिश्रित कक्षा है। उनके बीच सहयोग को बढ़ाने के लिए आप कौन-सा तरीका अपनाएँगे ?
- A) माता-पिता से समानता पर चर्चा करने के लिए कहना
B) लड़कों और लड़कियों को एक बेंच साझा करवाना
C) उन कार्यों को निर्धारित करना जिन्हें एक साथ करना है
D) पाठों में समानता की बात करना
68. शिक्षा में सजा का प्रमुख नुकसान यह है कि
- A) यह अप्रिय भावनाओं को उत्पन्न करता है
B) यह समस्या को स्थायी रूप से हल नहीं करता है
C) यह टीम वर्क को रोकता है
D) इनमें से कोई नहीं
69. निम्नलिखित में से कौन-सा शिक्षण में सबसे महत्वपूर्ण तत्व है ?
- A) शिक्षकों और छात्रों के बीच संबंध
B) विषय वस्तु
C) शिक्षण तकनीक और प्रयुक्त सहायक सामग्री
D) छात्र का ज्ञान
70. अध्ययन-अध्यापन प्रक्रिया में अभिप्रेरण उपागम _____ की ओर जाता है।
- A) विशेष से सामान्य
B) ज्ञात से अज्ञात
C) सरल से जटिल
D) उपरोक्त सभी



REASONING ABILITY

71. Find the odd man out.
 A) June 30 B) April 30
 C) May 31 D) November 30
72. Find the odd man out.
 A) Brown B) Green
 C) Yellow D) Red
73. Find the odd man out.
 A) 3527 B) 2357
 C) 5723 D) 7532
74. Find the next number in the series.
¹²144, ¹⁴196, ¹⁶256, ¹⁸324, ²⁰400, ²²484, _____
 A) 529 B) 576
 C) 625 D) 676
75. Find the next number in the series.
³27, ⁵125, ⁷343, ⁹729, _____
 A) 1000 B) 121
 C) 1331 D) 1031
76. Solve using BODMAS rule.
¹⁶(19 - 3) ÷ 4 + ¹³26 ÷ 2 - 48 ÷ 2 + 108
 A) - 93 B) - 99
 C) 101 D) 108
77. Solve using BODMAS rule.
⁹15 × 6 - 10 + 4 - 12 - 3
 A) 78 B) 69
 C) - 12 D) - 18

$$\begin{array}{r} 12 \\ 12 \\ \hline 24 \\ 18 \\ \hline 42 \end{array}$$

$$\begin{array}{r} 121 \\ 11 \\ \hline 121 \\ 121 \\ \hline 242 \\ 133 \\ \hline 375 \end{array}$$

तार्किक योग्यता

71. इनमें से बेमेल ज्ञात करें।
 A) जून B) अप्रैल
 C) मई D) नवम्बर
72. इनमें से बेमेल ज्ञात करें।
 A) भूरा B) हरा
 C) पीला D) लाल
73. इनमें से बेमेल ज्ञात करें।
 A) 3527 B) 2357
 C) 5723 D) 7532
74. नीचे दी गई संख्याओं की श्रृंखला में अगली संख्या ज्ञात करें।
 144, 196, 256, 324, 400, 484, _____
 A) 529 B) 576
 C) 625 D) 676
75. नीचे दी गई संख्याओं की श्रृंखला में अगली संख्या ज्ञात करें।
 27, 125, 343, 729, _____
 A) 1000 B) 121
 C) 1331 D) 1031
76. BODMAS नियम का प्रयोग करते हुए हल करें।
 (19 - 3) ÷ 4 + 26 ÷ 2 - 48 ÷ 2 + 108
 A) - 93 B) - 99
 C) 101 D) 108
77. BODMAS नियम का प्रयोग करते हुए हल करें।
 15 × 6 - 10 + 4 - 12 - 3
 A) 78 B) 69
 C) - 12 D) - 18

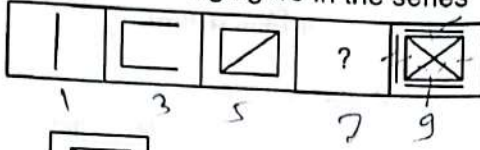
B

90 - 10 + 4 - 12 - 3
 94 - 25

$$\begin{array}{r} 014 \\ 95 \\ \hline 109 \end{array}$$

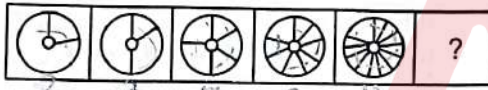


78. Find the missing figure in the series :



- A)
- B)
- C)
- D)

79. Find the next figure in the series :



- A)
- B)
- C)
- D)

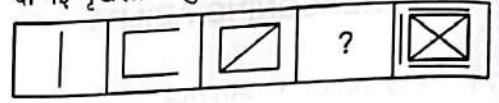
80. Find the next figure in the series :



- A)
- B)
- C)
- D)


B

78. दी गई श्रृंखला में लुप्त चित्र को ज्ञात करें ।



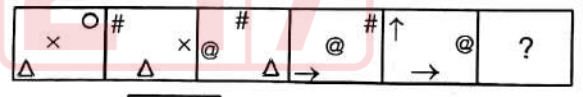
- A)
- B)
- C)
- D)

79. दी गई श्रृंखला में अगले चित्र को ज्ञात करें ।



- A)
- B)
- C)
- D)

80. दी गई श्रृंखला में अगले चित्र को ज्ञात करें ।



- A)
- B)
- C)
- D)



81. How many meaningful 3 letter English words can be formed by using letters A, E and T ? (by using each letter only once in a word)

- A) One
B) Two
C) Three
D) None

82. Find the wrong number in the series.

5, 20, 24, 120, 125, 754, 756

- A) 120
B) 754
C) 24
D) 20

83. In a certain code, if ENGINEER is coded as NEIGENRE, then how is the word MECHANIC coded ?

- A) CINAHCCEM
B) DFGHWXYZ
C) NEGINREF
D) EMHCNACI

84. Complete the following sequence.

pq rs rsp rs qsp rs p rs

- A) q r p s r q r
B) r r q q s p r
C) r q r p q r q
D) r p q r q r q

81. A, E और T अक्षरों का प्रयोग करते हुए तीन अक्षरों वाले अंग्रेजी के कितने अर्थपूर्ण शब्द बनाए जा सकते हैं ? (एक शब्द में प्रत्येक अक्षर का प्रयोग केवल एक बार किया जाए)

- A) एक
B) दो
C) तीन
D) कोई नहीं

82. दी गई श्रृंखला में गलत संख्या ज्ञात करें।

5, 20, 24, 120, 125, 754, 756

- A) 120
B) 754
C) 24
D) 20

83. किसी कोड भाषा में ENGINEER को NEIGENRE लिखा जाता है, तो उसी कोड भाषा में MECHANIC को क्या लिखा जाएगा ?

- A) CINAHCCEM
B) DFGHWXYZ
C) NEGINREF
D) EMHCNACI

84. दी गई श्रृंखला को पूरा कीजिए।

pq rs rsp rs qsp rs p rs

- A) q r p s r q r
B) r r q q s p r
C) r q r p q r q
D) r p q r q r q



85. This question contains a small paragraph followed by a question on it. Read the paragraph carefully and answer the question given below it.

The prevention of accidents makes it necessary not only that safety devices be used to guard exposed machinery but also that mechanics be instructed in safety rules which they must follow for their own protection, and that lighting in the plant be adequate.

The passage best supports the statement that industrial accidents

- A) Are always avoidable
- B) May be due to ignorance
- C) Cannot be entirely overcome
- D) Can be eliminated

86. Solve number analogy.

24 is related to 576 in the same way as
32 is related to

- A) 961
- B) 1000
- C) 1225
- D) 1024

87. Solve the number analogy.

13 is related to 42 in the same way as
65 is related to

- A) 198
- B) 203
- C) 179
- D) 217

88. Solve the number analogy.

9 is related to 99 in the same way as
5 is related to

- A) 35
- B) 45
- C) 25
- D) 30

85. दिए गए प्रश्न में एक पैराग्राफ दिया गया है जिस संबंधित प्रश्न है। पैराग्राफ को सावधानीपूर्वक पढ़कर उस पर दिए गए प्रश्न का उत्तर दीजिए।

दुर्घटनाओं की रोकथाम के लिए यह आवश्यक है कि सुरक्षा उपकरणों का उपयोग न केवल आवृत मशीनों की सुरक्षा के लिए किया जाए बल्कि मैकेनिकों की सुरक्षा नियमों के निर्देश भी दिए जाए जिसका अनुपालन वे अपनी सुरक्षा के लिए अनिवार्य रूप से करें और प्लांट में प्रकाश की पर्याप्त व्यवस्था हो।

यह पैराग्राफ इस कथन का सबसे अधिक समर्थन करता है कि औद्योगिक दुर्घटनाएँ

- A) हमेशा परिहार्य होते हैं
- B) अज्ञानता के कारण हो सकती हैं
- C) पूरी तरह से दूर नहीं किया जा सकता है
- D) निकाला जा सकता है

86. संख्या सादृश्यता को हल करें।

24 का जो संबंध 576 से है, 32 का वही संबंध _____ से है।

- A) 961
- B) 1000
- C) 1225
- D) 1024

87. संख्या सादृश्यता को हल करें।

13 का जो संबंध 42 से है, 65 का वही संबंध _____ से है।

- A) 198
- B) 203
- C) 179
- D) 217

88. संख्या सादृश्यता को हल करें।

9 का जो संबंध 99 से है, 5 का वही संबंध _____ से है।

- A) 35
- B) 45
- C) 25
- D) 30



89. Find the odd one out.

- A) 25 B) 27
C) 33 ~~D) 23~~

90. Find the odd one out.

- ~~A) ABC~~ ¹²³ B) BCD ²³⁴
~~C) CDE~~ ⁵⁶ D) DEF

91. Complete the following series.

- A, F, K, P, U, _____
A) V B) B
C) E ~~D) Z~~

92. Complete the following series.

- A, B, D, H, _____, F
A) P ~~B) T~~
C) X D) H

93. Complete the series.

- Asparagus, Beetroot, Apricot, Carrot, Grape, _____
A) Date B) Apple
~~C) Radish~~ D) Banana

94. Complete the series.

- AEIO, EIOU, IOUA, OUA, ~~UAEI~~
A) AEIO B) EIOU
~~C) UAEI~~ D) UEAI

95. Solve using BODMAS rule.

- $256 \div 16 + 49 \div 7 - 125 \div 5 \times 2 + 289 \div 17$
~~A) -10~~ B) 10
C) -15 D) -17

89. इनमें से बेमेल संख्या ज्ञात करें।

- A) 25 B) 27
C) 33 D) 23

90. इनमें से बेमेल ज्ञात करें।

- A) ABC B) BCD
C) CDE D) DEF

91. दी गई अक्षर श्रृंखला को पूरा कीजिए।

- A, F, K, P, U, _____
A) V B) B
C) E D) Z

92. दी गई अक्षर श्रृंखला को पूरा कीजिए।

- A, B, D, H, _____, F
A) P B) T
C) X D) H

93. दी गई श्रृंखला को पूरा कीजिए।

- शतावरी, चुकन्दर, खूबानी, गाजर, ~~अंगूर~~, _____
A) खजूर B) सेब~~x~~
~~C) मूली~~ D) केला~~x~~

94. दी गई श्रृंखला को पूरा कीजिए।

- AEIO, EIOU, IOUA, OUA, _____
A) AEIO B) EIOU
C) UAEI D) UEAI

95. BODMAS नियम का प्रयोग करते हुए हल करें।

- $256 \div 16 + 49 \div 7 - 125 \div 5 \times 2 + 289 \div 17$
A) -10 B) 10
C) -15 D) -17

B

$16 + 7 - \frac{25 \times 2}{17} + 17$
 $92 - 50 + 12$



96. Find the missing letters in the series.
FQS, JTP, NWM, RZJ, VC
A) SGC B) VCG
C) GCV D) VGC
97. 'Brain' is related to 'think' in the same way as medicine is related to _____.
A) Doctor B) Think
C) Cure D) Patient
98. Complete the series.
1K1, 1L2, 1N4, 1Q7, U
A) 2X4 B) 2U2
C) 2U1 D) 2T1
99. Complete the series.
2F3, 3L4, 4T5, 5D6, 6P7
A) 6P7 B) 6R7
C) 6T7 D) 6V7
100. If all the odd digits are added with one and all the even digits are subtracted by two in the number 53861743, then how many digits are repeated at least twice in the new number thus formed ?
A) Two B) One
C) Three D) None
96. दी गई श्रृंखला में लुप्त अक्षरी को जात करें।
FQS, JTP, NWM, RZJ, C
A) SGC B) VCG
C) GCV D) VGC
97. जिस प्रकार मस्तिष्क का संबंध सोच-विचार से है, उसी प्रकार दवा का संबंध _____ है।
A) डॉक्टर B) सोच-विचार
C) उपचार D) मरीज
98. दी गई श्रृंखला को पूरा कीजिए।
1K1, 1L2, 1N4, 1Q7, _____
A) 2X4 B) 2U2
C) 2U1 D) 2T1
99. दी गई श्रृंखला को पूरा कीजिए।
2F3, 3L4, 4T5, 5D6, _____
A) 6P7 B) 6R7
C) 6T7 D) 6V7
100. यदि संख्या 53861743 में सभी विषम अंकों में एक जोड़ दिया जाए और सभी सम अंकों से दो घटा दिया जाए, तो इस प्रकार बनी नई संख्या में कितने अंक कम से कम दो बार आएंगे ?
A) दो B) एक
C) तीन D) कोई नहीं

Question No.	Ans. Key		Question No.	Ans. Key
1	B		51	C
2	A		52	C
3	A		53	B
4	C		54	A
5	A		55	C
6	A		56	B
7	A		57	C
8	C		58	A
9	B		59	A
10	C		60	D
11	A		61	C
12	C		62	B
13	A		63	B
14	B		64	C
15	C		65	D
16	A		66	D
17	C		67	A
18	C		68	D
19	C		69	B
20	B		70	A
21	A		71	D
22	B		72	A
23	C		73	A
24	C		74	C
25	B		75	A
26	A		76	B
27	A		77	C
28	A		78	C
29	A		79	A
30	C		80	C
31	A		81	D
32	D		82	A
33	C		83	A
34	D		84	D
35	A		85	B
36	C		86	C
37	C		87	B
38	B		88	D
39	B		89	C
40	D		90	D
41	C		91	C
42	D		92	B
43	A		93	D
44	C		94	C
45	B		95	C
46	D		96	C
47	B		97	A
48	D		98	D
49	A		99	B
50	A		100	C

Question No.	Ans. Key	Question No.	Ans. Key
1	C	51	C
2	A	52	C
3	A	53	B
4	A	54	B
5	C	55	D
6	B	56	C
7	C	57	C
8	A	58	B
9	C	59	A
10	A	60	C
11	B	61	D
12	C	62	A
13	B	63	D
14	A	64	B
15	A	65	A
16	C	66	B
17	A	67	C
18	B	68	A
19	A	69	A
20	A	70	D
21	A	71	C
22	C	72	A
23	C	73	D
24	C	74	B
25	B	75	C
26	B	76	C
27	C	77	B
28	C	78	D
29	A	79	C
30	A	80	C
31	C	81	C
32	D	82	B
33	A	83	D
34	C	84	C
35	B	85	D
36	D	86	D
37	B	87	A
38	D	88	A
39	A	89	D
40	A	90	B
41	A	91	D
42	D	92	A
43	C	93	A
44	D	94	C
45	A	95	A
46	C	96	B
47	B	97	C
48	B	98	C
49	C	99	A
50	D	100	C

Question No.	Ans. Key	Question No.	Ans. Key
1	A	51	B
2	B	52	C
3	C	53	A
4	C	54	A
5	A	55	D
6	C	56	D
7	B	57	B
8	A	58	D
9	A	59	A
10	A	60	A
11	C	61	A
12	B	62	D
13	C	63	C
14	A	64	D
15	A	65	A
16	A	66	C
17	A	67	C
18	A	68	B
19	A	69	A
20	A	70	C
21	B	71	C
22	C	72	B
23	C	73	D
24	A	74	C
25	C	75	C
26	C	76	C
27	C	77	B
28	B	78	D
29	C	79	C
30	B	80	D
31	C	81	C
32	B	82	A
33	B	83	D
34	C	84	B
35	D	85	C
36	C	86	B
37	D	87	C
38	A	88	C
39	C	89	A
40	B	90	C
41	C	91	D
42	C	92	A
43	B	93	A
44	B	94	D
45	D	95	B
46	D	96	D
47	A	97	A
48	D	98	A
49	B	99	C
50	A	100	A

Test

Prime

By Adda247

Previous Year Papers PDF

PRACTICE MORE, SCORE HIGHER!



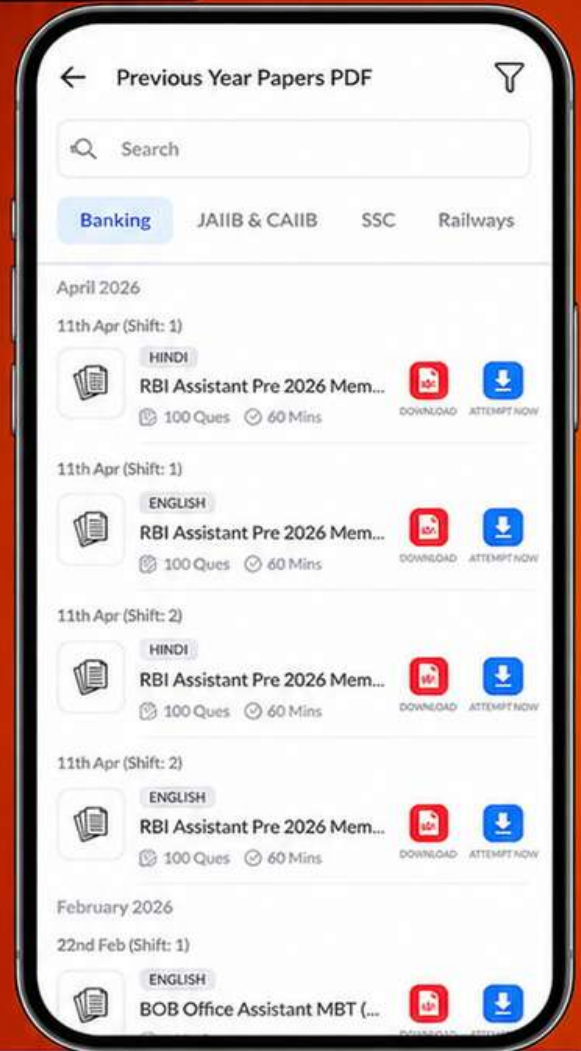
Free
25,000+
PDF's

High-Quality | Exam-Wise | Updated Regularly

ATTEMPT AS
MOCK



Turn PDFs into real exam experience.
Analyze. Improve. Succeed.



Topic-wise &
Exam-wise PDFs



Download &
Study Offline



Attempt as Mock
& Track Score



Smart Analysis
& Performance

AVAILABLE IN



Banking



SSC



Railway



Teaching



UGC



Agriculture



Nursing



Bihar



UP



Punjab



WB



Odisha



TN



AP & Telangana



Haryana



DOWNLOAD THE APP



Question No.	Ans. Key	Question No.	Ans. Key
1	C	51	C
2	A	52	B
3	C	53	B
4	A	54	C
5	B	55	D
6	C	56	D
7	A	57	A
8	A	58	D
9	C	59	B
10	B	60	A
11	A	61	C
12	A	62	D
13	A	63	A
14	C	64	C
15	B	65	B
16	A	66	A
17	B	67	D
18	A	68	C
19	A	69	D
20	A	70	A
21	A	71	C
22	C	72	B
23	B	73	D
24	C	74	C
25	C	75	D
26	A	76	D
27	C	77	A
28	C	78	A
29	C	79	D
30	B	80	B
31	C	81	B
32	C	82	C
33	B	83	C
34	A	84	A
35	C	85	C
36	B	86	D
37	C	87	A
38	A	88	A
39	A	89	C
40	D	90	A
41	D	91	C
42	B	92	A
43	D	93	D
44	A	94	B
45	A	95	C
46	C	96	C
47	C	97	B
48	B	98	D
49	B	99	C
50	D	100	C