



MPESB 2024

Group-4, Asstt. Grade -3 Stenotypist , Stenographer & Other Post Combined Recruitment Test - 2023 - Reports

View Challenged Items/

शिकायती प्रश्न देखें

View Report

View QP

View Candidate Response

Print Objection

View Candidate Question

[Print](#)

Testdate

18 Jul 2023 ▼

TestSlot

Shift 2 ▼

Submit

Q.No: 1 When was the community development program started in India?
2622391

भारत में सामुदायिक विकास कार्यक्रम कब शुरू किया गया था?

1947

A

1947

1950

B

1950

1951

C

1951

1952

D

1952

Correct Ans : D

Subject : General Knowledge graduate

Q.No: 2 The Emergency Provisions were borrowed from-
2622483

आपातकालीन प्रावधान उधार लिए गए थे-

Germany

A

जर्मनी

Austria

B

ऑस्ट्रिया

UK

C

यूके

America

D

अमेरिका

Correct Ans : A

Subject : General Knowledge graduate

Q.No: 3 As per Article 368 "Special majority + 50% is called simple majority" Where can it be changed?
2623692

अनुच्छेद 368 के अनुसार "विशेष बहुमत + 50% को साधारण बहुमत कहा जाता है" इसे कहाँ बदला जा सकता है?

Increase seats in Parliament

A

संसद में सीटें बढ़ाएं

B

Changes in Central and State Lists

**Test
Prime**

By Adda247

ALL EXAMS, ONE SUBSCRIPTION



Test. Analyze. Improve. Repeat.



Don't just prepare. Perform.

Test Prime — built only for mock tests.



1,50,000+
Mock Tests



25,000+
Previous Year Papers



800+
Exam Covered



500% Refund
on Selection



5 lakh+
Free Quizzes



Daily
Free PDFs



Job Alerts
Stay Updated

- Multilingual
- Detailed Solution
- Strong and Weak Areas



**All India
Rankings**

Compete with lakhs.
Rank. Improve. Repeat.



← Adda247 test prime

Rating ▾

Editors' choice

New



Adda247 Test Prime
Adda Education • Education
Installed



DOWNLOAD THE APP



केंद्रीय और राज्य सूचियों में परिवर्तन

Change in Union Territory

C

केंद्र शासित प्रदेश में बदलाव

Increase the number of other judges

D

अन्य न्यायाधीशों की संख्या बढ़ाएँ

Correct Ans : **B**

Subject : **General Knowledge graduate**

Q.No: 4 What is the name given to the northernmost Himalaya range in India?
2624535

भारत में सबसे उत्तरी हिमालय श्रृंखला को क्या नाम दिया गया है?

Himadri

A

हिमाद्री

Himachal

B

हिमाचल

Shivalik

C

शिवालिक

Trans Himalaya

D

ट्रांस हिमालय

Correct Ans : **A**

Subject : **General Knowledge graduate**

Q.No: 5 Which of the following dates marks the equinox, the two times of year when day and night are equal?
2624589

निम्नलिखित में से कौन सी तारीखें विषुव को चिन्हित करती हैं, वर्ष के दो समय जब दिन और रात बराबर होते हैं?

21 March and 23 September

A

21 मार्च और 23 सितंबर

22 February and 23 August

B

22 फरवरी और 23 अगस्त

15 October and 23 April

C

15 अक्टूबर और 23 अप्रैल

22 July and 22 December

D

22 जुलाई और 22 दिसंबर

Correct Ans : **A**

Subject : **General Knowledge graduate**

Q.No: 6 Who invaded and conquered the Chanderi Fort of Madhya Pradesh in 1528 AD?
2651913

1528 ई. में मध्य प्रदेश के चंदेरी किले पर किसने आक्रमण किया और उसे जीत लिया?

Babur

A

बाबर

B

Krishna Dev Raya

कृष्ण देव राय
Ibrahim Lodhi

C

इब्राहिम लोधी
Rana Sanga

D

राणा सांगा

Correct Ans : A

Subject : General Knowledge graduate

Q.No: 7 A Kathakali performance begins with _____.
2679696

कथकली प्रदर्शन की शुरुआत _____ से होती है।

Todayam

A

तोडयम्
Tiranokku

B

तिरानोक्क
Kelikottu

C

केलिकोट्ट
Melappadam

D

मेलाप्पदम्

Correct Ans : C

Subject : General Knowledge graduate

Q.No: 8 On the banks of which river is the Bara Imambara located?
2680647

बारा इमामबाड़ा किस नदी के तट पर स्थित है?

Yamuna

A

यमुना
Gomti

B

गोमती
Sabarmati

C

साबरमती
Kaveri

D

कावेरी

Correct Ans : B

Subject : General Knowledge graduate

Q.No: 9 Select the true statement. based on the following geographic characteristics:
2683545

- I) A geographer named Carl Ritter introduced the term "Madhyam Marg," which represents a halfway position between the two theories of environmental determinism and possibilism.
- II) Human activity leaves its mark everywhere, including in the form of health resorts on mountaintops, massive urban sprawls, crops, orchards, and pastures in plains and rolling coastlines, marine routes on the ocean floor, and satellites in space. Early scholars referred to this as possibilityism.
- III) Humans create better, more effective technologies as their societies and cultures advance.

सही कथन का चयन करें। निम्नलिखित भौगोलिक विशेषताओं के आधार पर:

- I) कार्ल रिटर नामक एक भूगोलवेत्ता ने "मध्यम मार्ग" शब्द पेश किया, जो पर्यावरणीय नियतिवाद और संभावना के दो सिद्धांतों के बीच आधी स्थिति का प्रतिनिधित्व करता है।
- II) मानव गतिविधि हर जगह अपनी छाप छोड़ती है, जिसमें पहाड़ों की चोटी पर स्वास्थ्य रिसॉर्ट्स, बड़े पैमाने पर शहरी फैलाव, फसलों, बागों और मैदानों और रोलिंग पहाड़ियों में चरागाह, समुद्र तटों पर बंदरगाह, समुद्र तल पर समुद्री प्रारंभिक विद्वानों ने इसे संभावनावाद के रूप में संदर्भित किया।
- III) मनुष्य अपने समाज और संस्कृतियों के आगे बढ़ने के साथ बेहतर, अधिक प्रभावी प्रौद्योगिकियों का निर्माण करते हैं।

Only I is correct

A

केवल I सही है

Both I & II are correct

B

I और II दोनों सही हैं

Both II & III are correct

C

II और III दोनों सही हैं

Only III is correct

D

केवल III सही है

Correct Ans : C

Subject : **General Knowledge graduate**

Q.No: 10 Which of the following space agencies are involved in the Crew Demo-2 mission?
2683606

कू डेमो -2 मिशन से निम्नलिखित में से कौन सी अंतरिक्ष एजेंसी जुड़ी है?

NASA and SpaceX

A

नासा और स्पेसएक्स

SpaceX and ESA

B

स्पेसएक्स और ईएसए

NASA and ESA

C

नासा और ईएसए

JAXA and NASA

D

जाक्सा और नासा

Correct Ans : A

Subject : **General Knowledge graduate**

Q.No: 11 Who is known as the "Queen of Soul"?
2684906

"आत्मा की रानी" के रूप में किसे जाना जाता है?

Whitney Houston

A

व्हीटनी ह्यूस्टन

Beyoncé

B

बेयोंसे

Aretha Franklin

C

अरेथा फ्रैंकलिन

Diana Ross

D

डायना रॉस

Correct Ans : C

Subject : **General Knowledge graduate**

Q.No: 12 Union Minister of Road Transport and Highways Nitin Gadkari inaugurated Zuari bridge in which state/UT of India?
2691622

केन्द्रीय सड़क परिवहन और राजमार्ग मंत्री नितिन गडकरी ने भारत के किस राज्य/केंद्र शासित प्रदेश में जुआरी पुल का उद्घाटन किया?

Kerala

A

केरल

Goa

B

गोवा

Himachal Pradesh

C

हिमाचल प्रदेश

Andhra Pradesh

D

आंध्र प्रदेश

Correct Ans : B

Subject : **General Knowledge graduate**

Q.No: 13 Which of the following groups of states has the largest deposits of iron ore?
2732590

निम्नलिखित राज्यों में से किस समूह में लौह अयस्क का सबसे बड़ा भंडार है?

Madhya Pradesh & Karnataka

A

मध्य प्रदेश और कर्नाटक

Rajasthan & Maharashtra

B

राजस्थान और महाराष्ट्र

Uttar Pradesh & Himachal Pradesh

C

उत्तर प्रदेश और हिमाचल प्रदेश

Bihar and Orissa

D

बिहार और उड़ीसा

Correct Ans : D

Subject : **General Knowledge graduate**

Q.No: 14 Buddhist Monuments a UNESCO World Heritage site located in which state?
2732713

बौद्ध स्मारक यूनेस्को की विश्व धरोहर स्थल किस राज्य में स्थित है?

Himachal Pradesh

A

हिमाचल प्रदेश

Rajasthan

B

राजस्थान

Delhi

C

दिल्ली

Madhya Pradesh

D

मध्य प्रदेश

Correct Ans : D

Subject : **General Knowledge graduate**

Q.No: 15 Which of the following books is not an autobiography?
2732809

निम्नलिखित में से कौन सी पुस्तक एक आत्मकथा नहीं है?

Wings of Fire

A

विंग्स आफ फायर

Mein Kampf

B

मैन काम्फ

The Race of My Life

C

द रेस आफ माय लाइफ

Paths of Glory

D

पाथ्स आफ ग्लोरी

Correct Ans : D

Subject : **General Knowledge graduate**

Q.No: 16 Where is 'Bibi Ka Maqbara' located?
2733206

'बीबी का मकबरा' कहाँ स्थित है?

Sasaram

A

सासाराम

New Delhi

B

नई दिल्ली

Aurangabad

C

औरंगाबाद

Raisen

D

रायसेन

Correct Ans : C

Subject : **General Knowledge graduate**

Q.No: 17 Paintings of Lepakshi are found in which state?
2733327

लेपाक्षी पेंटिंग किस राज्य में पाई जाती हैं?

Maharashtra

A

महाराष्ट्र

Andhra Pradesh

B

आंध्र प्रदेश

Assam

C

असम

Chhattisgarh

D

छत्तीसगढ़

Correct Ans : B

Subject : **General Knowledge graduate**

Q.No: 18 Select the synonym of the given word.

2621401

Serene

- A **Unfamiliar**
- B **Peaceful**
- C **Upright**
- D **Precise**

Correct Ans : B

Subject : **General English graduate**

Q.No: 19 Select the word which means the same as the group of words given.

2621552

A principle or standard by which something may be judged or decided.

- A **Horizon**
- B **Criterion**
- C **Podium**
- D **Mosaic**

Correct Ans : B

Subject : **General English graduate**

Q.No: 20 In the following question, a sentence has been given in Direct/Indirect Speech. Out of the four alternatives suggested, select the one which best expresses the same sentence in Indirect Speech. select your answer.

2629979

"My friend will come tomorrow", Namrata has already told us.

- A **Namrata has already told us that my friend would come the tomorrow.**
- B **Namrata has already told us that her friend will come the next day.**
- C **Namrata has already said to us that my friend would come the next day.**
- D **Namrata has already told us that whether her friend comes the next day.**

Correct Ans : B

Subject : **General English graduate**

Q.No: 21 Select the meaning of the given idiom.

2631467

To be in abeyance

- A **To be in working condition**
- B **Working very hard**
- C **Willingness to work**
- D **To be in suspension**

Correct Ans : D

Subject : **General English graduate**

Q.No: 22 Find the most appropriate option for the given blank space which can make the given sentence grammatically and contextually correct.

2648714

A few states across the country have remained _____ good.

- A **relatively**
- B **vary**
- C **perfect**
- D **timely**

Correct Ans : A

Subject : **General English graduate**

Q.No: 23 Select the incorrectly spelt word.

2665297

- A **Amateur**
- B **Harrasment**
- C **Climactic**

D **Definitely**

Correct Ans : **B**

Subject : **General English graduate**

Q.No: 24 Improve the bracketed part of the sentence.
2665565

They were angry (since) their plans had been discovered.

A **as**

B **therefore**

C **because**

D **No Improvement**

Correct Ans : **C**

Subject : **General English graduate**

Q.No: 25 In the below question, a sentence has been given in Direct/Indirect speech. Out of the four alternatives suggested, select the one which best expresses the same sentence in Indir
2676330

"And where must I take the poor creature?" said the servant.

A **The servant asked where must he took the poor creature.**

B **The servant asked where must he take the poor creature.**

C **The servant asked where he must be taking the poor creature.**

D **The servant asked where he must take the poor creature.**

Correct Ans : **D**

Subject : **General English graduate**

Q.No: 26 In the sentence, identify the segment which contains the grammatical error.
2677449

Since canine brain structures and processes are potential as unique and complex as ours, it will require years of tests to decipher how they work.

A **it will**

B **No error**

C **decipher how they**

D **potential as unique**

Correct Ans : **D**

Subject : **General English graduate**

Q.No: 27 In the following question, some parts of the sentence may have errors. Find out which part of the sentence has an error and select the appropriate option. If a sentence is free from
2686838

She is requesting me to do it as her mother has not been doing well.

A **She is requesting me to do it**

B **as her mother**

C **has not been doing well.**

D **No error**

Correct Ans : **D**

Subject : **General English graduate**

Q.No: 28 The question below consists of a set of labelled sentences. Out of the four options given, select the most logical order of the sentences to form a coherent sentence.
2689649

A day after clocking the lowest minimum temperature in a decade,

P. due to overcast conditions

Q. including Ladakh region, rose by several degrees

R. mercury across Kashmir division,

A **PQR**

B **PRQ**

C **RQP**

D **RPQ**

Correct Ans : **C**

Subject : **General English graduate**

Q.No: 29 Out of the following choose the word which expresses the right meaning of the given word.
2692880

ACCENTUATED

- A Exhibited
- B Heighten
- C Mitigated
- D Sharpened

Correct Ans : B

Subject : General English graduate

Q.No: 30 Select the most appropriate meaning of the given idiom.
2729322

Long in the Tooth.

- A Extremely dangerous.
- B Too wise for people.
- C Too old to do something.
- D Too uncomfortable for words.

Correct Ans : C

Subject : General English graduate

Q.No: 31 Out of the given four words only one is spelt correctly. Find the word that is correctly spelt.
2773498

- A Voluntary
- B Vacuum
- C Vehical
- D Vegeterian

Correct Ans : A

Subject : General English graduate

Q.No: 32 A sentence with an underlined word is given below. Find the Word which is most similar in meaning to the underlined word.
2773500

I begged him to be more careful.

- A cautious
- B negligent
- C notorious
- D complacent

Correct Ans : A

Subject : General English graduate

Q.No: 33 Fill in the blank with the correct Preposition.
2773505

He was attacked and seriously injured _____ a gang of robbers.

- A by
- B from
- C of
- D into

Correct Ans : A

Subject : General English graduate

Q.No: 34 Fill in the blank with the correct article.
2773509

_____ main attraction of this butterfly is its rareness.

- A A
- B An
- C The

D **No article required**

Correct Ans : C

Subject : **General English graduate**

Q.No: 35 Which of the following statements about Time Division Multiplexing (TDM) and its variations is true?
2635735

टाइम डिवीजन मल्टीप्लेक्सिंग (टीडीएम) और इसकी विविधताओं के बारे में निम्नलिखित में से कौन सा कथन सत्य है?

Statistical TDM do not use the bandwidth

A

सांख्यिकीय टीडीएम बैंडविड्थ का उपयोग नहीं करते हैं।

TDM requires the transmitter and receiver to be synchronized periodically

B

टीडीएम को समय-समय पर ट्रांसमीटर और रिसीवर को सिंक्रनाइज़ करने की आवश्यकता होती है।

TDM performs efficiently if the arrival pattern of the data stream is probabilistic

C

यदि डेटा स्ट्रीम का आगमन पैटर्न संभाव्य है तो टीडीएम कुशलतापूर्वक कार्य करता है।

TDM is efficient if the data stream is deterministic

D

यदि डेटा स्ट्रीम नियतात्मक है तो टीडीएम कुशल है।

Correct Ans : B

Subject : **General Computer Graduate**

Q.No: 36 What is the use of output devices in a computer system?
2635856

कंप्यूटर सिस्टम में आउटपुट डिवाइस का उपयोग क्या है?

Return processed data

A

रिटर्न प्रोसेस्ड डाटा

Return all data

B

रिटर्न ऑल डाटा

Return date

C

रिटर्न डेट

Return raw data

D

रिटर्न रॉ डाटा

Correct Ans : A

Subject : **General Computer Graduate**

Q.No: 37 What is the shortcut key to insert current date in a cell?
2636867

किसी सेल में मौजूदा तिथि डालने के लिए शॉर्टकट कुंजी क्या है?

CTRL++

A

CTRL++

CTRL+T

B

CTRL+T

CTRL+D

C

CTRL+D

D

CTRL+;

CTRL+;Correct Ans : **D**Subject : **General Computer Graduate**

Q.No: 38 In which area does computer aliasing take place?

2636884

कम्प्यूटर का अलियासिंग (aliasing) किस क्षेत्र में होता है ?

Utilize distinct symbolic identifiers in the application to locate data in memory

- A**
- मेमोरी में डेटा का पता लगाने के लिए आवेदन में विशिष्ट प्रतीकात्मक पहचानकर्ताओं (symbolic identifiers) का उपयोग करें
- Utilize identifiers in the application to locate data in memory**
- B**
- मेमोरी में डेटा का पता लगाने के लिए आवेदन में पहचानकर्ताओं (identifiers) का उपयोग करें
- Utilize distinct symbolic identifiers/**
- C**
- विशिष्ट प्रतीकात्मक पहचानकर्ताओं (symbolic identifiers) का उपयोग करें
- Utilize distinct symbolic identifiers data in memory**
- D**
- मेमोरी में विशिष्ट प्रतीकात्मक पहचानकर्ता (symbolic identifiers) डेटा का उपयोग करें

Correct Ans : **A**Subject : **General Computer Graduate**

Q.No: 39 Which one of the following is an antivirus software?

2637004

निम्नलिखित में से कौन-सा एक एंटीवायरस सॉफ्टवेयर है?

W97M

- A**
- W97M**
- Quick Heal**
- B**
- क्विक हील (Quick Heal)**
- Cascade**
- C**
- कैस्केड**
- Latest Protection**
- D**
- नवीनतम सुरक्षा (Latest Protection)**

Correct Ans : **B**Subject : **General Computer Graduate**

Q.No: 40 Which of the following is not on Home ribbon?

2638953

इनमें से कौन-सा होम रिबन पर नहीं है?

Columns

- A**
- कॉलम**
- Font color**
- B**
- फॉण्ट कलर**
- Bold**
- C**
- बोल्ड**
- D**
- Font**

फॉण्ट

Correct Ans : **A**

Subject : **General Computer Graduate**

Q.No: 41 Bandwidth and which of the following are the two main factors to consider while designing a data transmission system?
2639087

डेटा ट्रांसमिशन सिस्टम को डिजाइन करते समय बैंडविड्थ और निम्नलिखित में से कौन -सा दो मुख्य कारक हैं जिन पर विचार किया जाना चाहिए?

Data flow

A

डेटा फ्लो

Data Path

B

डेटा पथ

Frequency

C

फ्रिक्वेंसी

Distance

D

डिस्टेंस

Correct Ans : **D**

Subject : **General Computer Graduate**

Q.No: 42 An example of value inside the Name box of an Excel sheet is
2639119

एक्सेल शीट के नेम बॉक्स के अंदर वैल्यू का एक उदाहरण है

11BB

A

11BB

1112

B

1112

B22

C

B22

\$12\$A

D

\$12\$A

Correct Ans : **C**

Subject : **General Computer Graduate**

Q.No: 43 In computer graphics, the basic geometric transformations is/are:
2645144

कंप्यूटर ग्राफिक्स में, बुनियादी ज्यामितीय रूपांतरण (geometric transformations) _____ है/हैं।

Only Translation

A

केवल अनुवाद

Only Rotation

B

केवल घूर्णन

Line

C

रेखा

D

Both Translation and Rotation

अनुवाद और रोटेशन दोनों

Correct Ans : **D**

Subject : **General Computer Graduate**

Q.No: 44 If hackers use their knowledge unethically to break the law and disrupt security by exploiting the flaws and loopholes in a system, then they are called:
2675441

यदि हैकर्स अपने ज्ञान का उपयोग अनैतिक रूप से कानून तोड़ने और सिस्टम में खामियों और खामियों का फायदा उठाकर सुरक्षा को बाधित करने के लिए करते हैं, तो उन्हें कहा जाता है:

Black hats hackers

A

ब्लैक हैट हैकर

White hats hackers

B

व्हाइट हैट हैकर

Grey hats hackers

C

ग्रे हैट हैकर्स

Green hats hackers

D

ग्रीन हैट हैकर्स

Correct Ans : **A**

Subject : **General Computer Graduate**

Q.No: 45 Which item, contains text graphics, charts, sound, video, etc., in power point
2678270

पावर पॉइंट में किस आइटम में टेक्स्ट ग्राफिक्स, चार्ट, साउंड, वीडियो आदि होते हैं

Slides

A

स्लाइड

Folder

B

फ़ोल्डर

Handouts

C

हैंडआउट्स

Desktop screen

D

डेस्कटॉप स्क्रीन

Correct Ans : **A**

Subject : **General Computer Graduate**

Q.No: 46 Which of the following is a primary input device of every microcomputer?
2681059

निम्नलिखित में से कौन सा प्रत्येक माइक्रो कंप्यूटर का प्राथमिक इनपुट डिवाइस है?

Keyboard

A

कीबोर्ड

Mouse

B

माउस

Track ball

C

ट्रैक बॉल

D

Display

डिसप्ले

Correct Ans : **A**

Subject : **General Computer Graduate**

Q.No: 47 Which of the following is a software program designed to control a particular hardware device attached to computer?
2681066

निम्नलिखित में से कौन सा एक सॉफ्टवेयर प्रोग्राम है जिसे कंप्यूटर से जुड़े एक विशेष हार्डवेयर डिवाइस को नियंत्रित करने के लिए डिज़ाइन किया गया है?

Device driver

A

डिवाइस ड्राइवर

Utility software

B

यूटिलिटी सॉफ्टवेयर

Application software

C

एप्लीकेशन सॉफ्टवेयर

Customised software

D

कस्टमाइज्ड सॉफ्टवेयर

Correct Ans : **A**

Subject : **General Computer Graduate**

Q.No: 48 B.C.C. stands for?
2684482

बीसीसी का अर्थ है?

Blind Carbon Copy

A

ब्लाइंड कार्बन कॉपी

Binary Coded Circle

B

बाइनरी कोडेड सर्कल

Bearer Channel Connection

C

बियरर चैनल कनेक्शन

Block Check Connection

D

ब्लॉक चेक कनेक्शन

Correct Ans : **A**

Subject : **General Computer Graduate**

Q.No: 49 Evaluate the binary sum of the following numbers: 0 0 0 1 1 0 1 0 and 1 0 0 0 1 1 0 0.
2694121

निम्नलिखित संख्याओं के बाइनरी योग का मूल्यांकन करें: 0 0 0 1 1 0 1 0 और 1 0 0 0 1 1 0 0

10000010

A

10000010

11110110

B

11110110

10100110

C

10100110

D

10100000

10100000

Correct Ans : C

Subject : General Computer Graduate

Q.No: 50 Which is a storage buffer that stores the data that is used more often, temporarily, and makes them available to CPU at a fast rate?
2698827

कौन सा एक स्टोरेज बफर है जो अधिक बार उपयोग किए जाने वाले डेटा को अस्थायी रूप से स्टोर करता है और उन्हें तेज दर पर सीपीयू को उपलब्ध कराता है?

Primary memory

A

प्राइमरी मेमोरी

Cache memory

B

कैश मेमोरी

New memory

C

न्यू मेमोरी

Buffer memory

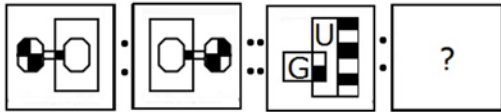
D

बफर मेमोरी

Correct Ans : B

Subject : General Computer Graduate

Q.No: 51 Select the option that is related to the figure in the same way that the second figure is related to the first figure.
2629430



उस विकल्प का चयन करें जो तीसरी आकृति से उसी तरह संबंधित है जैसे दूसरी आकृति पहली आकृति से संबंधित है।



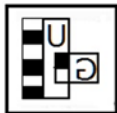
A



B



C





D

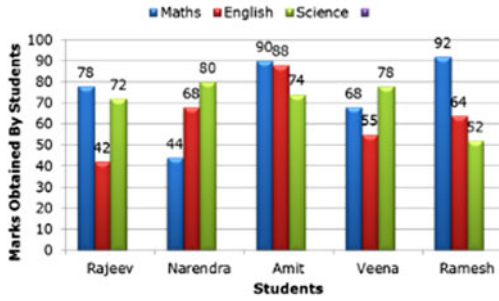


Correct Ans : B

Subject : General Aptitude Graduate

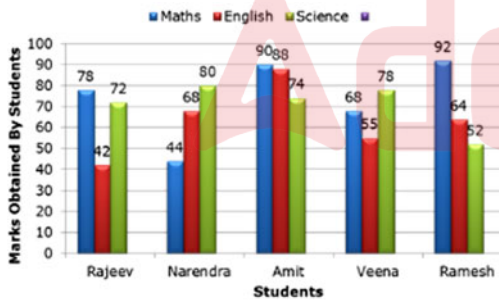
Q.No: 52 Read the following bar diagram carefully to answer the question given below.
2641101

Marks obtained by five students in different subjects - Maths, English and Science - in an examination.



By what percentage (approximately), the marks obtained by Amit in science is less than that in Maths?

नीचे दिए गए प्रश्न का उत्तर देने के लिए निम्नलिखित बार आरेख को ध्यान से पढ़ें। एक परीक्षा में विभिन्न विषयों - गणित, अंग्रेजी और विज्ञान में पांच छात्रों द्वारा प्राप्त अंक।



अमित को विज्ञान में प्राप्त अंक उसे गणित में प्राप्त अंको से कितने प्रतिशत (लगभग) कम हैं?

21

A

21

24

B

24

22

C

22

18

D

18

Correct Ans : D

Subject : **General Aptitude Graduate**

Q.No: 53 Five children are sitting in a row. S is sitting next to P but not T. K is sitting next to R, who is sitting on extreme left and T is not sitting next to K.
2642147

Who are sitting adjacent to S?

पांच बच्चे एक पंक्ति में बैठे हैं। S, P के बगल में बैठा है लेकिन T के पास नहीं बैठा है। K, R के बगल में बैठा है, जो चरम बाईं ओर बैठा है और T, K के बगल में नहीं बैठा है।

S के आसन्न कौन बैठे हैं?

K and P

A

K और P

R and P

B

R और P

Only C

C

केवल C

P and T

D

P और T

Correct Ans : **A**

Subject : **General Aptitude Graduate**

Q.No: 54 Arrange the given words in the sequence in which they occur in the dictionary.
2645655

1. OSDDKJF 2. OSDDFKJ 3. ODSFDJK 4. JDFGDS 5. OSDKFRF

दिए गए शब्दों को शब्दकोश में आने वाले क्रम में व्यवस्थित करें।

1. OSDDKJF 2. OSDDFKJ 3. ODSFDJK 4. JDFGDS 5. OSDKFRF

45325

A

45325

43215

B

43215

42135

C

42135

32415

D

32415

Correct Ans : **B**

Subject : **General Aptitude Graduate**

Q.No: 55 8 persons E, F, G, H, I, J, K and L are seated around a square table - two on each side. There are 3 ladies who are not seated next to each other. J is between L and F. G is between I and F. F, a male member is seated opposite to E, a lady member. There is a lady member between F and I. Who among the following is to the immediate left of
2663923

8 व्यक्ति E, F, G, H, I, J, K और L एक वर्गाकार मेज के चारों ओर बैठे हैं - प्रत्येक भुजा पर दो। 3 महिलाएं हैं जो एक दूसरे के बगल में नहीं बैठी हैं। J, L और F के बीच में है। G, I और F के बीच में है। H, एक महिला सदस्य, J, F, एक पुरुष सदस्य, एक महिला सदस्य, E के सामने बैठा है। F और I के बीच एक महिला सदस्य है। निम्नलिखित में से कौन F के ठीक बाएं बैठा है?

A

A

A

B

I

- I
H
C
H
J
D
J

Correct Ans : D

Subject : **General Aptitude Graduate**

Q.No: 56 In the following question, select the odd word from the given alternatives.
2665052

निम्न प्रश्न में, दिए गए विकल्पों में से विषम शब्द का चयन करें।

Pebbles

- A
कंकड़
Rock
B
चट्टान
Humus
C
ह्यूमस (मिट्टी)
Stones
D
पत्थर

Correct Ans : C

Subject : **General Aptitude Graduate**

Q.No: 57 In the following question, a group of three numbers are given. The given numbers are related to each other by a logic /rule /relation. Select the one which follows the same logic / alternatives.
2669888

(9, 36, 16)

निम्नलिखित प्रश्न में, तीन संख्याओं का एक समूह दिया गया है। दिए गए अंक एक एक तर्क/नियम/सम्बन्ध द्वारा एक दूसरे से सम्बंधित हैं। दिए गए विकल्पों में से उसी तर्क/नियम/सम्बन्ध का अनुसरण करने वाले का चयन करें।

(9, 36, 16)

(5, 40, 49)

- A
(5, 40, 49)
(6, 80, 25)
B
(6, 80, 25)
(8, 40, 25)
C
(8, 40, 25)
(7, 65, 81)
D
(7, 65, 81)

Correct Ans : C

Subject : **General Aptitude Graduate**

Q.No: 58 A sum of money amounts to Rs. 13,730 at 16% p.a. compounded semi-annually
2670549 in $1\frac{1}{2}$ years. Find the interest accumulated on the sum for the same period.

एक राशि 8% चक्रवृद्धि प्रतिवर्ष की दर से अर्ध-वार्षिक रूप से $1\frac{1}{2}$ वर्ष में 13,730 रु. हो जाती है। समान समय में राशि पर लगने वाला ब्याज ज्ञात कीजिये?

Rs. 1,212

A

1,212 रुपये

Rs. 1,328

B

1,328 रुपये

Rs. 1,524

C

1,524 रुपये

Rs. 1,642

D

1,642 रुपये

Correct Ans : C

Subject : **General Aptitude Graduate**

Q.No: 59 The sales of cars increases by 20% every year. There are only two competitors in the market Hyundai and Mahindra. Their market shares are 45% and 55% respectively in 2017. **2673216** of its customers (in 2017) to Mahindra and Mahindra loses 40% of its customers (in 2017) to Hyundai. If the market growth is divided in the ratio 3 : 1 in favour of Hyundai, what in 2018?

अमेरिका में कारों की बिक्री हर साल 20% बढ़ जाती है। बाजार में केवल दो प्रकार के प्रतिযোগी जीएम और फोर्ड हैं। 1991 में उनका बाजार शेयर क्रमशः 45% और 55% था। 1992 में जीएम अपने ग्राहकों (1991 में) का 20% प में फोर्ड अपने ग्राहकों (1991 में) का 40% जीएम की अपेक्षा खो देता है। यदि बाजार वृद्धि को जीएम के पक्ष में 3 : 1 के अनुपात में विभाजित किया जाता है, तो 1992 में फोर्ड की बाजार हिस्सेदारी क्या थी ?

47%

A

47%

40%

B

40%

39%

C

39%

25%

D

25%

Correct Ans : C

Subject : **General Aptitude Graduate**

Q.No: 60 A man sells his goods at 21% loss on selling price. Find actual loss%?

2673343

एक व्यक्ति किसी वस्तु को विक्रयमूल्य पर 21% हानि पर बेचता है। वास्तविक हानि % ज्ञात करो।

$16\frac{44}{121}\%$

A

$16\frac{44}{121}\%$

$17\frac{43}{121}\%$

B

$17\frac{43}{121}\%$

$15\frac{2}{11}\%$

C

$15\frac{2}{11}\%$

$11 \frac{1}{11} \%$

D

$11 \frac{1}{11} \%$

Correct Ans : B

Subject : General Aptitude Graduate

Q.No: 61 In question, a few statements have been given followed by some conclusions. Consider the statements to be true and answer which of the given conclusions are correct with respect to the statements.
2679799

Statements:

All songs are poems.

All poems are rhymes.

No rhyme is a paragraph.

Conclusions:

I. No song is a paragraph.

II. No poem is a paragraph.

प्रश्न में, कुछ कथनों के बाद कुछ निष्कर्ष दिए गए हैं। कथनों को सत्य मानें और उत्तर दें कि दिए गए कथनों में से कौन-सा कथन सही है।

कथन:

सभी गीत कविताएँ हैं।

सभी कविताएँ तुकबंदी हैं।

कोई तुकबंदी पैराग्राफ नहीं है।

निष्कर्ष:

I. कोई गाना पैराग्राफ नहीं है।

II. कोई कविता पैराग्राफ नहीं है।

only conclusion I follows

A

केवल निष्कर्ष I अनुसरण करता है

only conclusion II follows

B

केवल निष्कर्ष II अनुसरण करता है

either conclusion I or conclusion II follows

C

या तो निष्कर्ष I या निष्कर्ष II अनुसरण करता है

both conclusion I and conclusion II follow

D

निष्कर्ष I और निष्कर्ष II दोनों अनुसरण करते हैं

Correct Ans : D

Subject : General Aptitude Graduate

Q.No: 62 In the following questions, a few statements have been given followed by some conclusions. Consider the statements to be true and answer which of the given conclusions are correct with respect to the statements.
2679943

Statement I: Some roses are sunflower.

Statement II: Some sunflower are marigold.

Statement III: All marigold are lilies.

Statement IV: No rose is tulip.

Conclusion I: Some lilies are sunflower.

Conclusion II: Some lilies are roses.

Conclusion III: Some marigold are tulip.

निम्नलिखित प्रश्नों में कुछ कथनों के बाद कुछ निष्कर्ष दिए गए हैं। कथनों को सत्य मानकर उत्तर दीजिए दिए गए निष्कर्षों में से कौन-सा कथन के संबंध में सही है:

कथन I: कुछ गुलाब सनपत्तावर हैं।

कथन II: कुछ सनपत्तावर मैरीगोल्ड हैं।

कथन III: सभी मैरीगोल्ड लिली हैं।

कथन IV: कोई गुलाब ट्यूलिप नहीं है।

निष्कर्ष I: कुछ लिली सनपलावर हैं।

निष्कर्ष II: कुछ लिली गुलाब हैं।

निष्कर्ष III: कुछ मैरीगोल्ड ट्यूलिप हैं।

Only conclusion I follow

A

केवल निष्कर्ष I अनुसरण करता है

Either conclusion IV and III follow

B

या तो निष्कर्ष IV और III अनुसरण करते हैं

Both conclusions I and II follow

C

दोनों निष्कर्ष I और II अनुसरण करते हैं

Only conclusion II follow

D

केवल निष्कर्ष II अनुसरण करता है

Correct Ans : A

Subject : **General Aptitude Graduate**

Q.No: 63 Identify the diagram that best represents the relationship among the given classes.

2755672

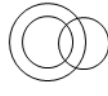
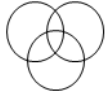
Non-biodegradable substances, plastic, paper

उस आरेख की पहचान करें जो दिए गए श्रेणियों के बीच संबंध का सबसे अच्छा प्रतिनिधित्व करता है।

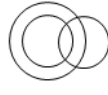
गैर-बायोडिग्रेडेबल पदार्थ, प्लास्टिक, कागज



A



B



C



D



Correct Ans : C

Subject : **General Aptitude Graduate**

Q.No: 64 Which two signs should be interchanged in the following equation to make it correct?
2755700

$$25 - 10 \times 2 = 5 \div 15 + 51$$

निम्नलिखित समीकरण को सही करने के लिए किन दो चिह्नों को आपस में बदलना चाहिए?

$$25 - 10 \times 2 = 5 \div 15 + 51$$

= and x

A

= और x

x and -

B

x और -

- and ÷

C

- और ÷

+ and x

D

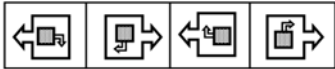
+ और x

Correct Ans : **D**

Subject : **General Aptitude Graduate**

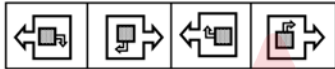
Q.No: 65 Select the option that will come next in the given series.
2755710

Question Figure:



उस विकल्प का चयन करें जो दी गई श्रृंखला में आगे आएगा।

प्रश्न आकृति:



A



B



C



D





Correct Ans : **D**

Subject : **General Aptitude Graduate**

Q.No: 66 Anil, introducing a girl in a party, said, she is the wife of the grandson of my mother. How is Anil related to the girl?
2755727

अनिल ने एक पार्टी में एक लड़की का परिचय देते हुए कहा, वह मेरी मां के पोते की पत्नी है। अनिल लड़की से किस प्रकार संबंधित है?

Father

A

पिता

Grandfather

B

दादा

Husband

C

पति

Father-in-law

D

ससुर

Correct Ans : **D**

Subject : **General Aptitude Graduate**

Q.No: 67 The average weight of A, B, C and D is 33kgs. C is 12kgs lighter than A while B is 6 kg heavier than C. D's weight is 10 kgs less than that of C. What is the average weight of A and D?
2629533

A, B, C तथा D का औसत भार 33 किग्रा है। C, A से 12 किग्रा हल्का है जबकि B, C से 6 किग्रा भारी है। D का भार C के भार से 10 किग्रा कम है। A तथा D का औसत भार कितना है?

32 kg

A

32 किलोग्राम

33 kg

B

33 किलोग्राम

34 kg

C

34 किलोग्राम

35 kg

D

35 किलोग्राम

Correct Ans : **A**

Subject : **General Maths graduate**

Q.No: 68 What should come in place of the question mark (?) in the following question?
2641678 $(\sqrt{196} + 432 \div 12)\% \text{ of } 720 = ?\% \text{ of } 900$

निम्नलिखित प्रश्न में प्रश्नवाचक चिन्ह (?) के स्थान पर क्या आना चाहिए?

720 का $(\sqrt{196} + 432 \div 12)\% = 900$ का ?%

75

A

75

40

B

40

35

C

35

45

D

45

Correct Ans : B

Subject : General Maths graduate

Q.No: 69 In a ΔABC , right angled at B, $AB = 7$ cm and $(AC - BC) = 1$ cm. The value of $(\sec C + \cot A)$ is:
2643126

ΔABC में, B पर समकोण है, $AB = 7$ cm और $(AC - BC) = 1$ cm है। $(\sec C + \cot A)$ का मान है:

$\frac{19}{24}$

A

$\frac{19}{24}$

$\frac{4}{3}$

B

$\frac{4}{3}$

$\frac{3}{4}$

C

$\frac{3}{4}$

1

D

1

Correct Ans : B

Subject : General Maths graduate

Q.No: 70 A merchant has 900 kg of sugar, a part of which he sells at 10% profit and the rest at 16% profit. He makes a profit of 12% on the whole business. The quantity sold at 16% profit is:
2647728

एक व्यापारी के पास 900 किग्रा चीनी है, जिसका एक भाग वह 10% लाभ पर और शेष 16% लाभ पर बेचता है। वह पूरे व्यापार पर 12% का लाभ कमाता है। 16% लाभ पर बेची गई मात्रा है:.

400 kg

A

400 किग्रा

450 kg

B

450 किग्रा

600 kg

C

600 किग्रा

300 kg

D

300 किग्रा

Correct Ans : D

Subject : General Maths graduate

Q.No: 71 If $a + b + 1 = 0$ then what is the value of $(a^3 + b^3 + 1 - 3ab)$?
2667338

यदि $a + b + 1 = 0$ तो $(a^3 + b^3 + 1 - 3ab)$ का मान क्या है?

- A -1
- B 1
- C 3
- D 0

Correct Ans : D

Subject : General Maths graduate

Q.No: 72 Find the perimeter of a triangle having sides of lengths 5.5cm, 6cm and 6.5cm.
2671431

5.5 सेमी, 6 सेमी और 6.5 सेमी लंबाई वाले त्रिभुज का परिमाण ज्ञात कीजिए।

- A 14 cm
- B 18 सेमी
- C 21 सेमी
- D 19 सेमी

Correct Ans : B

Subject : General Maths graduate

Q.No: 73 The volume of cube whose edge is $3a$ is?
2671482

घन का आयतन जिसका किनारा $3a$ है?

- A $3a^3$
- B $27a^3$
- C $9a^3$
- D $6a^3$

Correct Ans : B

Subject : General Maths graduate

Q.No: 74 After replacing an old member by a new member, it was found that the average age of five members of a club is the same as it was 3 years ago. The difference between the ages member is:-

एक पुराने सदस्य को नए सदस्य द्वारा प्रतिस्थापित करने के बाद, यह पाया गया कि एक क्लब के पांच सदस्यों की औसत आयु 3 वर्ष पहले जितनी है। पुराने और नए सदस्य की आयु के बीच का अंतर है:-

2 years

A

2 वर्ष

4 years

B

4 वर्ष

8 years

C

8 वर्ष

15 years

D

15 वर्ष

Correct Ans : **D**

Subject : **General Maths graduate**

Q.No: 75 A book consists of 30 pages, 25 lines on each page and 35 characters on each line. If this content is written in another book consisting of 30 lines and 28 characters per line, then will how much percent greater than the previous pages?

एक पुस्तक में 30 पृष्ठ हैं और प्रत्येक पृष्ठ में 25 लाइन्स और प्रत्येक लाइन में 35 अक्षर हैं। यदि इस सामग्री को किसी अन्य पुस्तक में लिखा जाता है, जिसमें 30 लाइन्स और 28 अक्षर प्रति लाइन हैं, तो आवश्यक पृष्ठों की संख्या पिछले से अधिक होगी?

5.66%

A

5.66%

6.66%

B

6.66%

5%

C

5%

3.6%

D

3.6%

Correct Ans : **B**

Subject : **General Maths graduate**

Q.No: 76 A small aeroplane can travel at 320 km/h in still air. The wind is blowing at a constant speed of 40 km/h. The total time for a journey against the wind is 135 min. What will be the return journey with the wind? (ignore take off and landing time for the aeroplane)

एक छोटा हवाई जहाज स्थिर हवा में 320 किमी./घंटा की गति से यात्रा कर सकता है। हवा 40 किमी./घंटे की रफ्तार से चल रही है। हवा के विरुद्ध यात्रा करने में कुल 135 मिनट का समय लगता है। हवा के साथ वापसी यात्रा करने में के लिए उतरने और उड़ने के समय का अनुमान करें।

97.5 min.

A

97.5 min.

105 min

B

105 min

120 min

C

120 min

D

127.5 min.

127.5 min.

Correct Ans : **B**

Subject : **General Maths graduate**

Q.No: 77 A train crosses a man going along the railway track at 13.5 km/hr. The man could see the train upto 4 min then find the speed of the train if due to fog he can see upto 1.9 km and
2672955 metre?

एक ट्रेन 13.5 किमी./घंटा की रफतार से रेलवे ट्रैक पर जा रही एक आदमी को पार कर जाती है। आदमी 4 मिनट तक ट्रेन को देख सकता है, यदि कोहरे के कारण वह 1.9 किमी. तक देख सकता है और ट्रेन की लंबाई 500 मीटर है,
49.5 km/hr

A

49.5 किमी./घंटा

54 km/hr

B

54 किमी./घंटा

44 km/hr

C

44 किमी./घंटा

40.5 km/hr

D

40.5 किमी./घंटा

Correct Ans : **A**

Subject : **General Maths graduate**

Q.No: 78 Alok, Mithilesh, and Bimlesh started a work and after completing 1/5th of the work Bimlesh left. Alok and Mithilesh then worked for 20 days. Bimlesh then took over from Alok and
2673064 the remaining portion of the work in 12 days. If Bimlesh takes 40 days to complete the work, in how many days would Alok alone complete the work if the efficiency of Alok is 50%

आलोक, मिथिलेश और बिमलेश ने एक काम शुरू किया और 1/5 काम पूरा होने के बाद बिमलेश वहां से चला गया इसके बाद आलोक और मिथिलेश ने 20 दिनों तक काम किया। बिमलेश ने तब आलोक और मिथिलेश से पदभार संभ
भाग पूरा कर लिया। यदि बिमलेश को काम पूरा करने में 40 दिन लगते हैं, तो अकेले आलोक कितने दिनों में काम पूरा कर लेंगे, अगर आलोक की कार्य क्षमता मिथिलेश से 50% ज्यादा है?

41

A

41

60

B

60

45

C

45

$66\frac{2}{3}$

D

$66\frac{2}{3}$

Correct Ans : **D**

Subject : **General Maths graduate**

Q.No: 79 A sum of money doubles itself in 15 years, if invested at simple interest. What is the rate of interest allowed on the investment.
2680257

यदि साधारण ब्याज पर निवेश किया जाए, तो 15 वर्ष में उसका मूलधन दोगुना हो जाता है। निवेश पर ब्याज की दर कितनी है?

$8\frac{1}{3}$ Years

A

$8\frac{1}{3}$ वर्ष

B

$8\frac{2}{3}$ Years

$8\frac{2}{3}$ वर्ष

$6\frac{1}{3}$ Years

C

$6\frac{1}{3}$ वर्ष

$6\frac{2}{3}$ Years

D

$6\frac{2}{3}$ वर्ष

Correct Ans : D

Subject : General Maths graduate

Q.No: 80 The area of square is equal to four times the area of a rectangle of length 117 cm and breadth 13 cm. What is the perimeter of the square?
2687448

एक वर्ग का क्षेत्रफल, एक आयत के क्षेत्रफल का चार गुना है जिसकी लम्बाई 117 सेमी तथा चौड़ाई 13 सेमी है। वर्ग का परिमाण क्या होगा?

310 cm

A

310 सेमी

308 cm

B

308 सेमी

312 cm

C

312 सेमी

300 cm

D

300 सेमी

Correct Ans : C

Subject : General Maths graduate

Q.No: 81 The profit earned on selling a product for Rs.2620 is twice the loss incurred on selling the same product for Rs.2290. What will be the selling price of the product when it will be sold at a profit of 15%?
2687845

₹.2620 में एक उत्पाद को बेचने पर अर्जित लाभ, समान उत्पाद को ₹.2290 में बेचने पर हुए नुकसान का दोगुना है। उत्पाद का विक्रय मूल्य क्या होगा जब वह 15% लाभ पर बेचा जाएगा?

Rs.2400

A

₹.2400

Rs.2500

B

₹.2500

Rs.2350

C

₹.2350

Rs.2460

D

₹.2460

Correct Ans : A

Subject : General Maths graduate

Q.No: 82 A can contains a mixture of two liquids 'A' and 'B' in the ratio 7:5. When 9 liters of mixture are drawn off and the can is filled with 'B', the ratio of 'A' and 'B' becomes 7:9 liters. Liters of 'A' initially was?
2696107

एक केन में दो द्रवों A और B का 7:5 के अनुपात में मिश्रण है। जब 9 लीटर मिश्रण को बाहर निकाला जाता है और उसके स्थान पर द्रव B का अनुपात 7:9 हो जाता है। प्रारंभ में केन में कितने लीटर द्रव A भरा था?

10 Liter

A

10 लीटर

- B **20 Liter**
20 लीटर
- C **21 Liter**
21 लीटर
- D **25 Liter**
25 लीटर

Correct Ans : C

Subject : **General Maths graduate**

Q.No: 83 A man undertakes to do a certain work in 150 days. He employs 200 men. He finds that only a quarter of the work is done in 50 days. The number of additional men that should be employed to finish the whole work in time is:

एक व्यक्ति एक कार्य 150 दिनों में पूरा करने के लिए लेता है। उसमें वह 200 व्यक्ति नियुक्त करता है। उसे पता चलता है कि 50 दिनों में केवल एक-चौथाई काम पूरा हुआ है। तदनुसार वह कार्य निश्चित समय पर पूरा करने के लिए, उसे कितने अधिक लोग चाहिए?

- A **100**
- B **125**
- C **50**
- D **75**

Correct Ans : A

Subject : **General Maths graduate**

Q.No: 84 निम्नलिखित में से कौन-सा शब्द बहुव्रीहि समास का सही उदाहरण नहीं है?

- A शूलपाणि
- B चक्रपाणि
- C चन्द्रशेखर
- D परमेश्वर

Correct Ans : D

Subject : **General Hindi graduate**

Q.No: 85 निम्नलिखित में से विदेशी शब्द का चयन कीजिए-

- A हैट
- B कपास
- C खुरपा
- D खलिहान

Correct Ans : A

Subject : **General Hindi graduate**

Q.No: 86 निम्नलिखित शब्द-समूहों में से कौन-सा विकल्प देशी शब्दों का सही उदाहरण है?

- A अपील, कोर्ट, मजिस्ट्रेट
- B लकड़ी, गड़बड़ी, पगड़ी
- C वोट, पेन्शन, कापी
- D बुशर्त, पोस्टकार्ड, मनी

Correct Ans : B

Subject : **General Hindi graduate**

Q.No: 87 निम्नलिखित में से "ह्रस्व" का विलोम शब्द क्या है?

- A दुर्मति

- B अवरोह
C दीर्घ
D तामसिक

Correct Ans : C

Subject : General Hindi graduate

Q.No: 88 "पाठकवृंद" का एकवचन शब्द निम्न में से क्या होगा?
2660722

- A पाठकगण
B पाठक
C पाठकों
D पाठकवर्ग

Correct Ans : B

Subject : General Hindi graduate

Q.No: 89 निम्न में से कौन-सा विकल्प मालिनी मजुमालिनी वर्णिक छंद का सही उदाहरण है?
2660870

- A बड़ा कि छोटा कुछ काम कीजै।
परन्तु पूर्वापर सोच लीजै।।
बिना विचारे यदि काम होगा।
कभी न अच्छा परिणाम होगा।।
भू में रमी शरद की कमनीयता थी।
नीला अनंत नभ निर्मल हो गया था।।
प्रिय पति वह मेरा, प्राण प्यारा कहाँ है?
दुःख जलधि में डूबी, का सहारा कहाँ है?
अब तक जिसको मैं, देख के जी सकी हूँ
वह हृदय हमारा, नेत्र-तारा कहाँ है?
तारे डूबे तम टल गया छा गई व्योम लाली।
D पछी बोले तमचुर जगे ज्योति फैली दिशा में।

Correct Ans : C

Subject : General Hindi graduate

Q.No: 90 निम्न में से स्वीकृतिबोधक निपात/निपातों का चयन कीजिए-
2660883

- A ठीक, करीब, लगभग, तकरीबन
B क्या
C जी नहीं, नहीं
D हाँ, जी, जी हाँ

Correct Ans : D

Subject : General Hindi graduate

Q.No: 91 नीचे दिए गए वाक्य में निम्न में से किस विराम चिन्ह का प्रयोग किया गया है?
2661294

- सहर (सुबह) होते ही मजदूर निकल पड़े कार्य की तलाश में।
A योजक चिन्ह
B अवतरण चिन्ह
C उद्धरण चिन्ह
D कोष्ठक चिन्ह

Correct Ans : D

Subject : General Hindi graduate

Q.No: 92 निम्नलिखित प्रश्न में पांच कथन दिए गए हैं। इन्हें इस तरह क्रमबद्ध कीजिए कि उनसे एक अर्थपूर्ण परिच्छेद बन जाए, फिर उसके बाद दिए गए विकल्पों में से सही विकल्प का चयन कीजिए।
2661436

- A. तथा संगीतात्मक लय
B. जिस रचना में मात्राओं
C. और गति की योजना रहती है,
D. और वर्णों की विशेष व्यवस्था
E. उसे 'छन्द' कहते हैं।

- A **ABDCE**
 B **BDACE**
 C **EDABC**
 D **CDBAE**

Correct Ans : **B**

Subject : **General Hindi graduate**

Q.No: 93 निम्नलिखित प्रश्न में पांच कथन दिए गए हैं। इन्हें इस तरह क्रमबद्ध कीजिए कि उनसे एक अर्थपूर्ण परिच्छेद बन जाए, फिर उसके बाद दिए गए विकल्पों में से सही विकल्प का चयन कीजिए।
2661451

- A. जाति देश और काल की सीमाओं में
 B. बँधे रहकर यदि हम साहित्यिक
 C. साहित्य के उद्देश्य तथा सामयिक आवश्यकता-
 D. मूल्यांकन प्रस्तुत करेंगे, तो
 E. रागात्मक एकता से ही दूर जा पड़ेंगे।

- A **ABDCE**
 B **BDACE**
 C **EDABC**
 D **CDBAE**

Correct Ans : **A**

Subject : **General Hindi graduate**

Q.No: 94 निम्नलिखित में से क्रिया "घबराना" का भाववाचक संज्ञा रूप कौन-सा है?
2666393

- A **घबराना**
 B **घवरा**
 C **घबराहट**
 D **घबरानापन**

Correct Ans : **C**

Subject : **General Hindi graduate**

Q.No: 95 निम्नलिखित में से महाप्राण वर्ण कौन-से है?
2666579

- A **क, ग**
 B **इ, च**
 C **ख, छ**
 D **ज, झ**

Correct Ans : **C**

Subject : **General Hindi graduate**

Q.No: 96 निम्नलिखित में से अशुद्ध वर्तनी वाले शब्द का चयन कीजिए-
2666647

- A **सर्वविदित**
 B **अधिवेशन**
 C **अनीपचारिक**
 D **चर्कव्यूह**

Correct Ans : **D**

Subject : **General Hindi graduate**

Q.No: 97 निम्न में से उपर्युक्त विकल्प का चयन कर रिक्त स्थान की पूर्ति कीजिए-
2668092

घर आया _____ भी नहीं निकाला जाता।

- A **बिल्ली**
 B **कुत्ता**
 C **बैल**
 D **गाय**

Correct Ans : **B**

Subject : **General Hindi graduate**

Test

Prime

By Adda247

Previous Year Papers PDF

PRACTICE MORE, SCORE HIGHER!



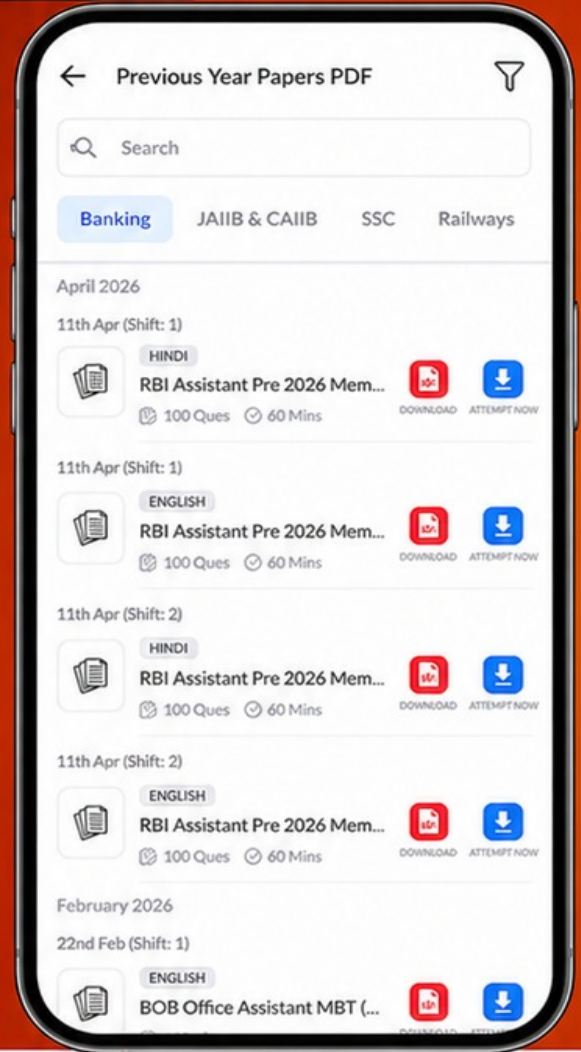
Free
25,000+
PDF's

High-Quality | Exam-Wise | Updated Regularly

ATTEMPT AS
MOCK



Turn PDFs into real exam experience.
Analyze. Improve. Succeed.



Topic-wise &
Exam-wise PDFs



Download &
Study Offline



Attempt as Mock
& Track Score



Smart Analysis
& Performance

AVAILABLE IN



Banking



SSC



Railway



Teaching



UGC



Agriculture



Nursing



Bihar



UP



Punjab



WB



Odisha



TN



AP & Telangana



Haryana



DOWNLOAD THE APP



Q.No: 98 निम्नलिखित में से 'भाई-बहन में काफी प्रेम है' – 'भाई-बहन' के बीच प्रयुक्त चिह्न कौन-सा है ?
2668355

- A लाघव चिह्न
- B उद्धरण चिह्न
- C योजक चिह्न
- D अवतरण चिह्न

Correct Ans : C

Subject : **General Hindi graduate**

Q.No: 99 निम्नलिखित प्रश्न में पांच कथन दिए गए हैं। इन्हें इस तरह क्रमबद्ध कीजिए कि उनसे एक अर्थपूर्ण परिच्छेद बन जाए, फिर उसके बाद दिए गए विकल्पों में से सही विकल्प का चयन कीजिए।
2668482

- A अपनी व्यक्तिगत सत्ता की अलग
- B भावना से हटाकर निज के योग-क्षेम से संबंध से मुक्त करके,
- C वास्तविक दशाओं में जो हृदय समय-समय पर
- D जगत के वास्तविक दृश्यों और जीवन की
- E रमता है, वही सच्चा कवि हृदय है।

- A **ABDCE**
- B **BDACE**
- C **EDABC**
- D **CDBAE**

Correct Ans : A

Subject : **General Hindi graduate**

Q.No: 100 निम्नलिखित में से शुद्ध वर्तनी वाले शब्द का चयन कीजिए-
2731774

- A निर्माण
- B पुनर्स्थापना
- C वृटिश
- D जाग्रती

Correct Ans : B

Subject : **General Hindi graduate**

