



MPESB 2024
Group-4, Asstt. Grade -3 Stenotypist , Stenographer &
Other Post Combined Recruitment Test - 2023 - Reports

[View Challenged Items/](#)
शिकायती प्रश्न देखें

[View Report](#)

[View QP](#)

[View Candidate Response](#)

[Print Objection](#)

[View Candidate Question](#)

Moderator
loggedin.[
Logout]

[Print](#)

Testdate

16 Jul 2023 ▼

TestSlot

Shift 1 ▼

Submit

Q.No: 1 When was the Khadi and Village Industries Commission (KVIC) established?
2622249

खादी और ग्रामोद्योग आयोग (KVIC) की स्थापना कब की गई थी?

1947

A

1947

1956

B

1956

1987

C

1987

1996

D

1996

Correct Ans : **B**

Subject : **General Knowledge graduate**

Q.No: 2 How do brand equity and company reputation affect business?
2622373

ब्रांड इक्विटी और कंपनी की प्रतिष्ठा व्यवसाय को कैसे प्रभावित करती है?

Internally

A

आंतरिक रूप से

Externally

B

बाहरी

**Test
Prime**

By Adda247

ALL EXAMS, ONE SUBSCRIPTION



Test. Analyze. Improve. Repeat.



Don't just *prepare*. Perform.

Test Prime — built only for mock tests.



1,50,000+
Mock Tests



25,000+
Previous Year Papers



800+
Exam Covered



500% Refund
on Selection



5 lakh+
Free Quizzes



Daily
Free PDFs



Job Alerts
Stay Updated

- Multilingual
- Detailed Solution
- Strong and Weak Areas



**All India
Rankings**

Compete with lakhs.
Rank. Improve. Repeat.



← Adda247 test prime

Rating ▾

Editors' choice

New



Adda247 Test Prime
Adda Education • Education
📌 Installed



DOWNLOAD THE APP



The policy of International agencies

C

अंतर्राष्ट्रीय एजेंसियों की नीति

The policy of the government

D

सरकार की नीति

Correct Ans : **B**

Subject : **General Knowledge graduate**

Q.No: 3 Which of the following terms is not found in Fundamental Duties?
2622518

निम्नलिखित में से कौन सा पद मौलिक कर्तव्यों में नहीं पाया जाता है?

Scientific perspective

A

वैज्ञानिक दृष्टिकोण

Humanism

B

मानवतावाद

Enlightenment

C

ज्ञानोदय

Extraction

D

निष्कर्षण

Correct Ans : **D**

Subject : **General Knowledge graduate**

Q.No: 4 Disguised unemployment in India is mainly related to
2623440

भारत में छुपी बेरोज़गारी किस रूप में है?

Agricultural sector

A

कृषि क्षेत्र

Rural Area

B

ग्रामीण क्षेत्र

C

Factory sector

फैक्ट्री क्षेत्र

Urban Area

D

शेहरी क्षेत्र

Correct Ans : A

Subject : **General Knowledge graduate**

Q.No: 5 If the municipality is dissolved then in how many months it is mandatory to hold its election?
2623636

यदि नगर पालिका भंग हो जाती है तो उसका चुनाव कितने माह में करना अनिवार्य है?

1 Years

A

1 साल

3 months

B

3 महीने

2 months

C

2 महीने

6 months

D

6 महीने

Correct Ans : D

Subject : **General Knowledge graduate**

Q.No: 6 Where is our parliamentary system derived from?
2623832

हमारी संसदीय प्रणाली कहाँ से ली गई है?

China

A

चीन

Japan

B

जापान

C

America

अमेरिका

Britain

D

ब्रिटन

Correct Ans : **D**

Subject : **General Knowledge graduate**

Q.No: 7 Between which two planets is the asteroid belt found?
2624349

क्षुद्रग्रह पेटी किन दो ग्रहों के बीच पाई जाती है?

Venus and earth

A

शुक्र और पृथ्वी

Jupiter and Saturn

B

बृहस्पति और शनि

Mars and Jupiter

C

मंगल और बृहस्पति

Earth and mars

D

पृथ्वी और मंगल

Correct Ans : **C**

Subject : **General Knowledge graduate**

Q.No: 8 Which of the following is a type of precipitation?
2624481

निम्नलिखित में से कौन सा वर्षण का एक प्रकार है?

Dew

A

ओस

Fog

B

कोहरा

Mist

C

कुहासा

Hailstone**D**

ओला

Correct Ans : **D**Subject : **General Knowledge graduate**

Q.No: 9 Which of the following is the correct formula for calculating National Income (NI) from Net National Income (NNP)?
2642650

निम्न में से कौन-सा निवल राष्ट्रीय आय (NNP) से राष्ट्रीय आय (NI) की गणना करने का सही फॉर्मूला है?

NI = NNP + indirect taxes - subsidies - depreciation

A

NI = NNP + अप्रत्यक्ष कर - सब्सिडी - मूल्यहास

NI = NNP - indirect taxes + subsidies

B

NI = NNP - अप्रत्यक्ष कर + सब्सिडी

NI = NNP - indirect taxes + subsidies - depreciation

C

NI = NNP - अप्रत्यक्ष कर + सब्सिडी - मूल्यहास

NI = NNP + indirect taxes - subsidies

D

NI = NNP + अप्रत्यक्ष कर - सब्सिडी

Correct Ans : **B**Subject : **General Knowledge graduate**

Q.No: 10 The Tropic of Cancer passes through which of the following districts of Madhya Pradesh?
2651232

कर्क रेखा मध्य प्रदेश के निम्नलिखित में से किस जिले से होकर गुजरती है?

Bhopal**A**

भोपाल

Indore**B**

इंदौर

Harda**C**

हरदा

D**Balghat**

बालघाट

Correct Ans : A

Subject : **General Knowledge graduate**

Q.No: 11 Who was appointed by Prithviraj Chauhan as the ruler of Garh Kundar Fort? (From the given options)
2651928

पृथ्वीराज चौहान ने गढ़ कुंदर किले के शासक के रूप में किसे नियुक्त किया था?(दिए गए विकल्पों में से)

Rudra Pratap

A

रुद्र प्रताप

Khet Singh Khangar

B

खेत सिंह खंगार

Shayaji Parmar

C

शायजी परमार

Raghuvar Parmar

D

रघुवर परमार

Correct Ans : B

Subject : **General Knowledge graduate**

Q.No: 12 Since which century was the architectural form of "arcuate" and the use of limestone, cement visible in Indian architecture?
2680635

किस शताब्दी के बाद से वास्तुकला का "चापाकार" रूप और चूना पत्थर, सीमेंट का उपयोग दिखाई देने लगा?

Ninth

A

नौवीं

Tenth

B

दसवीं

Eleventh

C

ग्यारहवीं

D

Twelfth

बारहवीं

Correct Ans : **D**

Subject : **General Knowledge graduate**

Q.No: 13 Which of the following crafts was known for its intricate designs and was practiced mainly in the Mughal courts?
2680668

निम्नलिखित में से कौन-सा शिल्प अपने जटिल डिजाइनों के लिए जाना जाता था और मुख्य रूप से मुगल दरबारों में प्रचलित था?

Pottery

A

मिट्टी के बर्तन

Weaving

B

बुनाई

Carpet-making

C

कालीन बनाना

Calligraphy

D

सुलेख

Correct Ans : **D**

Subject : **General Knowledge graduate**

Q.No: 14 Khadar is:
2680772

खादर क्या है?

Old alluvium

A

पुराना जलोढ़क

New alluvium

B

नया जलोढ़क

Old Red soil

C

पुरानी लाल मृदा

D

New Red soil

नयी लाल मृदा

Correct Ans : **B**

Subject : **General Knowledge graduate**

Q.No: 15 Which kind of economy is exhibited by India?
2681336

भारत में किस प्रकार की अर्थव्यवस्था का प्रदर्शन किया जाता है?

Socialistic economy

A

समाजवादी अर्थ व्यवस्था

Gandhian economy

B

गांधीवादी अर्थ व्यवस्था

Mixed economy

C

मिश्रित अर्थ व्यवस्था

Free economy

D

मुक्त अर्थ व्यवस्था

Correct Ans : **C**

Subject : **General Knowledge graduate**

Q.No: 16 Who has been appointed as the interim MD and CEO by Karnataka Bank in April 2023?
2733083

अप्रैल 2023 में कर्नाटक बैंक द्वारा अंतरिम एमडी और सीईओ के रूप में किसे नियुक्त किया गया है?

Sekhar Rao

A

शेखर राव

Rajesh Mittal

B

राजेश मित्तल

Arun Kumar Singh

C

अरुण कुमार सिंह

D

Sanjay Kumar

संजय कुमार

Correct Ans : **A**

Subject : **General Knowledge graduate**

Q.No: 17 _____ is a noted Kuchipudi and Bharatnatyam dancer from Ahmedabad, Gujarat.
2733139

_____ अहमदाबाद, गुजरात के एक प्रसिद्ध कुचिपुड़ी और भरतनाट्यम नर्तक हैं।

Vijay Shankar

A

विजय शंकर

Mallika Sarabhai

B

मल्लिका साराभाई

Pandit Birju Maharaj

C

पंडित बिरजू महाराज

Sonal Mansingh

D

सोनल मानसिंह

Correct Ans : **B**

Subject : **General Knowledge graduate**

Q.No: 18 Select the most appropriate word to fill in the blank.
2621323

_____ I was initially interested in art, I felt more of a connection to music.

A

As

B

But

C

For

D

Even though

Correct Ans : **D**

Subject : **General English graduate**

Q.No: 19 In the following question, a sentence has been given in Direct/Indirect Speech. Out of the four alternatives suggested, select the one which best expresses the same sentence in Indirect/Direct Speech and select your answer.
2629989

Shyamlal said, "She succumbed to the temptation of another drink."

A

Shyamlal told that she succumbed to the temptation of another drink.

B

Shyamlal said that she had succumbed to the temptation of another drink.

- C **Shyamlal told her whether she had succumbed to the temptation of another drink.**
- D **Shyamlal told her that she was succumbed to the temptation of another drink.**

Correct Ans : **B**

Subject : **General English graduate**

Q.No: 20 Select the synonym of the given word.

2631397

Remember

- A **Recall**
- B **Reign**
- C **Retell**
- D **Reinforce**

Correct Ans : **A**

Subject : **General English graduate**

Q.No: 21 Select the correctly spelt word.

2631560

- A **Elimentary**
- B **Elementary**
- C **Elimantry**
- D **Elemantry**

Correct Ans : **B**

Subject : **General English graduate**

Q.No: 22 In the following questions, out of the four alternatives, select the alternative which is the best substitute of the phrase.

2665364

Not to be moved by entreaty

- A **Rigorous**
- B **Negligent**
- C **Inexorable**
- D **Despotic**

Correct Ans : **C**

Subject : **General English graduate**

Q.No: 23 In the following question, one part of the sentence may have an error. Find out which part of the sentence has an error and select the appropriate option.

2674415

There has been a national effort to installs Automatic Identification System (AIS) systems on ships under 20m for which a pilot study has been carried out.

- A **a pilot study has been carried out**

- B **Automatic Identification System (AIS)**
- C **There has been a national effort to install**
- D **systems on ships under 20m for which**

Correct Ans : **C**

Subject : **General English graduate**

Q.No: 24 Select the most appropriate option to substitute the bracket segment in the given sentence. If no substitution is required, select No correction required.

- A study concluded that food restrictions and loneliness (**is on the rise**) and may be related epidemics.
- A **Are on the rise**
 - B **Was on the rise**
 - C **Is in the rise**
 - D **No correction required**

Correct Ans : **A**

Subject : **General English graduate**

Q.No: 25 In the below question, a sentence has been given in Direct/Indirect speech. Out of the four alternatives suggested, select the one which best expresses the same sentence in Indirect/Direct speech.

- "How kind of you to take an interest in us!" Mrs. Bertram exclaimed.
- A **Mrs. Bertram exclaimed that it was very kind of me to take an interest in us.**
 - B **Mrs. Bertram exclaimed that it was very kind of me to be taking an interest in them.**
 - C **Mrs. Bertram exclaimed that it is very kind of me to take an interest in them.**
 - D **Mrs. Bertram exclaimed that it was very kind of me to take an interest in them.**

Correct Ans : **D**

Subject : **General English graduate**

Q.No: 26 In the following question, out of the four alternatives, choose the one which can be substituted for the given words/sentence.

- A state of perfect balance
- A **equinox**
 - B **equanimous**
 - C **equilateral**
 - D **equilibrium**

Correct Ans : **D**

Subject : **General English graduate**

Q.No: 27 In the below question, a part of the sentence is bracketed. Below are given alternatives to the bracketed part which may improve the sentence. Choose the correct alternative. In case no improvement is required, choose 'No Improvement' option.

2676838

The Tomorrow land team, on account of celebrating their fifteenth anniversary, (aspires to send in a) powerful message by opting for sustainable t-shirts for their crew members.

- A **aspires to send off a**
- B **aspires to send out a**
- C **aspires to send over a**
- D **No improvement**

Correct Ans : B

Subject : **General English graduate**

Q.No: 28 In the following question, some parts of the sentence may have errors. Find out which part of the sentence has an error and select the appropriate option. If a sentence is free from error, select No Error.

2686794

The price of rice may shoot up to reach a boiling point in the coming months as the stocks of the staple cereal are depleting fast owing for deficient rain and fall in output.

- A **The price of rice may shoot up to reach a boiling point**
- B **in the coming months as the stocks of the staple cereal**
- C **are depleting fast owing for deficient rain and fall in output.**
- D **No error**

Correct Ans : C

Subject : **General English graduate**

Q.No: 29 In the following question, there is a grammatical error in any one part of the sentence. Find out which part of the sentence has a grammatical error and select the appropriate option.

2686881

When he was admitted in the hospital, one of his family member paid a visit to him.

- A **When he was admitted**
- B **in the hospital,**
- C **one of his family member**
- D **paid a visit to him.**

Correct Ans : C

Subject : **General English graduate**

Q.No: 30 Four alternatives are given for the idiom/phrase bracket in the sentence. Choose the alternative which best expresses the meaning of the idiom/phrase and mark it.

2688732

(In the long run)

- A **Permanently**
- B **Universally**
- C **Occasionally**

D **Ultimately**

Correct Ans : **D**

Subject : **General English graduate**

Q.No: 31 In the following question, there are six sentences marked S1, S6, P, Q, R, S. The positions of S1 and S6 are fixed. You are required to choose one of the four alternatives which would be the most logical sequence of the sentence in the passage.
2689656

S1. You live either in a village or a town of India.

P: Many villages and towns form a tehsil or a taluka.

Q: There are also some areas in our country called Union Territories.

R: Many tehsils of talukas form a district and many districts form a State.

S: These, together with all the states of our country make India.

S6. India is our motherland.

A **PQRS**

B PRQS

C **QPRS**

D **RPQS**

Correct Ans : **B**

Subject : **General English graduate**

Q.No: 32 Out of the following choose the word which expresses the right meaning of the given word.
2692858

Gimcrack

A **expensive**

B worthless

C **rare**

D **smuggled**

Correct Ans : **B**

Subject : **General English graduate**

Q.No: 33 In the following question, out of the four given options, select the one that best expresses the meaning of the idiom/phrase.
2727988

Under a cloud

A **experiencing cloudy weather**

B **enjoying favorable luck**

C under suspicion

D **under observation**

Correct Ans : C

Subject : **General English graduate**

Q.No: 34 Select the most appropriate synonym of the given word.

2729092

DEVIOUS

A **Principled**

B **Guileful**

C **Fanciful**

D **Genuine**

Correct Ans : B

Subject : **General English graduate**

Q.No: 35 The mail server's status changes to which of the following when it transmits mail to other mail servers?

2635715

जब मेल सर्वर अन्य मेल सर्वरों को मेल भेजता है तो उसकी स्थिति किसमें बदल जाती है?

SMTP Client

A

SMTP क्लाइंट

SMTP Server

B

SMTP सर्वर

Peer

C

पीयर

Master

D

मास्टर

Correct Ans : A

Subject : **General Computer Graduate**

Q.No: 36 DVD is related to computer, what is its full form?

2635809

DVD का संबंध कम्प्यूटर से है, इसका पूर्ण रूप क्या है?

Digitized Versatile Disk

A

डिजिटाइज्ड वर्सेटाइल डिस्क

B

Digital Versatile Disk

डिजिटल वर्सेटाइल डिस्क

Detail Versatile Disk

C

डिटैल वर्सेटाइल डिस्क

Direct-Write Versatile Disk

D

डायरेक्ट-राइट वर्सेटाइल डिस्क

Correct Ans : **B**

Subject : **General Computer Graduate**

Q.No: 37 Which of the following is used in main memory?
2635891

निम्नलिखित में से किसका उपयोग मुख्य मेमोरी में किया जाता है?

SRAM

A

SRAM

DRAM

B

DRAM

PRAM

C

PRAM

DDR

D

DDR

Correct Ans : **B**

Subject : **General Computer Graduate**

Q.No: 38 Which of the following is not a Text function in MS Excel?
2636089

निम्नलिखित में से कौन-सा एमएस एक्सेल में टेक्स्ट फंक्शन नहीं है?

CHAR()

A

CHAR()

B

DB()

DB()

CODE()

C

CODE()

CLEAN()

D

CLEAN()

Correct Ans : **B**

Subject : **General Computer Graduate**

Q.No: 39 What is Cache memory?

2636852

कैश मेमोरी क्या है?

Buffer memory situated between the CPU and RAM

A

सीपीयू और रैम के बीच स्थित बफर मेमोरी

Buffer memory situated between the CPU and ROM

B

CPU और ROM के बीच स्थित बफर मेमोरी

Buffer memory situated between the ROM and RAM

C

ROM और RAM के बीच स्थित बफर मेमोरी

Buffer memory situated between the CPU and MOS

D

CPU और MOS के बीच स्थित बफर मेमोरी

Correct Ans : **A**

Subject : **General Computer Graduate**

Q.No: 40 Who develops viruses or attempts to access systems' restricted information?

2636949

कौन वायरस विकसित करता है या सिस्टम की प्रतिबंधित जानकारी तक पहुँचने का प्रयास करता है?

Firewalls

A

फायरवॉल

Worms

B

वॉर्म

C

Time bomb

टाइम बम

Hackers

D

हैकर्स

Correct Ans : D

Subject : **General Computer Graduate**

Q.No: 41 With respect to computer, what is full form of VIRUS?
2638934

कंप्यूटर के सन्दर्भ में, वायरस का पूर्ण रूप क्या है?

Vitalise Information Resources Under Siege

A

Vitalise Information Resources Under Siege

Vital Informational Resources Under Siege

B

Vital Informational Resources Under Siege

Vital Information Resources Under Siege

C

Vital Information Resources Under Siege

Vital Information Resources Undead Siege

D

Vital Information Resources Undead Siege

Correct Ans : C

Subject : **General Computer Graduate**

Q.No: 42 Which of the following provides icons (or pictures) and menus (list of choices) that users can select with a mouse?
2675294

निम्नलिखित में से कौन सा आइकन (या चित्र) और मेनू (विकल्पों की सूची) प्रदान करता है जिसे उपयोगकर्ता माउस से चुन सकते हैं?

ROM

A

रोम (ROM)

GUI

B

जी.यू.आई. (GUI)

C

FSK

एफ.एस.के. (FSK)

GNU

D

जी.एन.यू. (GNU)

Correct Ans : B

Subject : **General Computer Graduate**

Q.No: 43 Identify the audio output device from the below list.
2676598

नीचे दी गई सूची से ऑडियो आउटपुट डिवाइस की पहचान करें।

Webcam

A

वेबकैम

Mouse

B

माउस

Joystick

C

जॉयस्टिक

Speaker

D

स्पीकर

Correct Ans : D

Subject : **General Computer Graduate**

Q.No: 44 What is the purpose of 'Enter Key' in MS Excel?
2678260

एमएस एक्सेल में 'एंटर की' का उद्देश्य क्या है?

Moves cell pointer to previous column

A

सेल पॉइंटर को पिछले कॉलम में ले जाता है

Moves cell pointer to next column

B

सेल पॉइंटर को अगले कॉलम में ले जाता है

C

Moves cell pointer to previous row

सेल पॉइंटर को पिछली पंक्ति में ले जाता है

Moves cell pointer to next row

D

सेल पॉइंटर को अगली पंक्ति में ले जाता है

Correct Ans : **D**

Subject : **General Computer Graduate**

Q.No: 45 What type of software program is power point?

2678273

पॉवर पॉइंट किस प्रकार का सॉफ्टवेयर प्रोग्राम है ?

Word Processor

A

वर्ड प्रोसेसर

Spread Sheet

B

स्प्रेड शीट

Presentation Graphics

C

प्रेजेंटेशन ग्राफिक्स

Database Management

D

डेटाबेस मैनेजमेंट

Correct Ans : **C**

Subject : **General Computer Graduate**

Q.No: 46 Which of the following Super Computers is the most modern and faster?

2680424

निम्नलिखित में से कौन सा सुपर कंप्यूटर सबसे आधुनिक और तेज है?

PARAM

A

परम

Frontier

B

फ्रंटियर्स

CRAY 3

C

क्रे 3(CRAY 3)

D

Eka

एका (EkA)

Correct Ans : B

Subject : General Computer Graduate

Q.No: 47 Which of the following statements is not true?
2680427

निम्नलिखित कथनों में से कौनसा सत्य नहीं है?

Mouse, track ball and touch pad are point and click devices.

A

माउस, ट्रैक बॉल और टच पैड पॉइंट और क्लिक डिवाइस हैं।

Mouse, track ball and touch pad are used to start the task.

B

माउस, ट्रैक बॉल और टच पैड का उपयोग कार्य शुरू करने के लिए किया जाता है

Mouse, track ball and touch pad are selecting and dragging items/objects.

C

माउस, ट्रैक बॉल और टच पैड वस्तुओं / वस्तुओं का चयन और खींच रहे हैं।

Mouse, track ball and touch pad are not used to draw.

D

माउस, ट्रैक बॉल और टच पैड का उपयोग चित्र बनाने के लिए नहीं किया जाता है।

Correct Ans : D

Subject : General Computer Graduate

Q.No: 48 An excel workbook is a collection of _____.
2684604

एक एक्सेल वर्कबुक _____ का एक संग्रह है।

Workbooks

A

वर्कबुक

Worksheets

B

वर्कशीट

Charts

C

चार्ट

D

Worksheets and charts Sheet

वर्कशीट और चार्ट शीट

Correct Ans : **D**Subject : **General Computer Graduate**Q.No: 49 Which network device is used to connect LAN (Local Area Network) together?
2690272

लैन (लोकल एरिया नेटवर्क) को एक साथ जोड़ने के लिए किस नेटवर्क डिवाइस का उपयोग किया जाता है?

Router**A**

रूटर

Messenger**B**

मैसेंजर

Transmitter**C**

समीटर

Transistors**D**

ट्रांजिस्टर

Correct Ans : **A**Subject : **General Computer Graduate**Q.No: 50 Which of the following is/ are the function of the Input device?
2690374

निम्नलिखित में से कौन सा/से इनपुट डिवाइस का कार्य है/हैं?

It print out the information**A**

यह जानकारी प्रिंट करता है

It displays the information or data**B**

यह सूचना या डेटा को विस्थापित करता है

It sends information to a computer system for processing**C**

यह प्रोसेसिंग के लिए कंप्यूटर सिस्टम को सूचना भेजता है

D**It manipulates the given information as commanded**

यह दी गई जानकारी को कमांड के रूप में हेरफेर करता है

Correct Ans : C

Subject : **General Computer Graduate**

Q.No: 51 When a pitcher is placed in front of a mirror, it appears to be 8:54. What time exactly is shown on the clock?
2614291

एक घड़े को आईने के सामने रखने पर लगता है कि 8:54 हुआ है घड़ी में सही समय क्या हो रहा होगा?

2:12

A

2:12

3:06

B

3:06

4:06

C

4:06

5:10

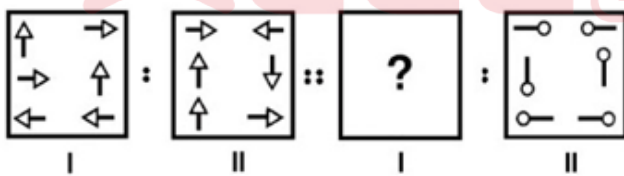
D

5:10

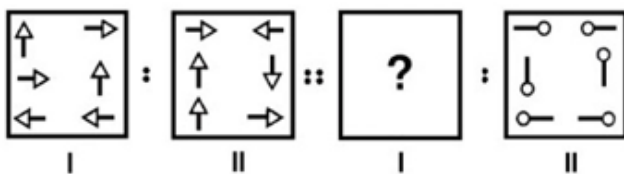
Correct Ans : B

Subject : **General Aptitude Graduate**

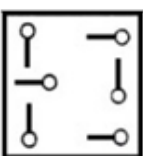
Q.No: 52 Select the option that is related to the figure in the same way that the second figure is related to the first figure.
2629400

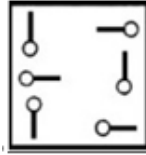
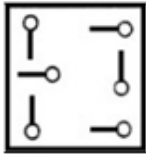


उस विकल्प का चयन करें जो तीसरी आकृति से उसी तरह संबंधित है जैसे दूसरी आकृति पहली आकृति से संबंधित है।

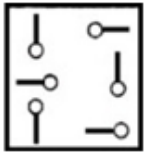
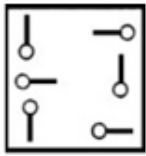


A

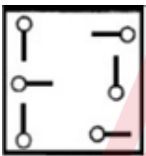
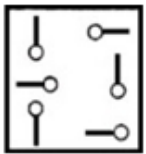




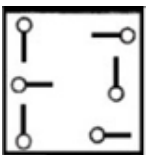
B



C



D



Correct Ans : D

Subject : **General Aptitude Graduate**

Q.No: 53 The question below consists of a question and two statements given below it. You have to decide whether the data provided in the statements are sufficient to answer the question.
2637450

How is X related to W?

I. V is the husband of X.

II. W is the brother of Z, whose mother is X.

नीचे दिए गए प्रश्न में एक प्रश्न और उसके नीचे दो कथन दिए गए हैं। आपको निर्धारित करना है कि कथन में उपलब्ध सूचना प्रश्न का उत्तर देने के लिए पर्याप्त है या नहीं।

X, W से किस प्रकार संबंधित हैं?

I. V, X का पति हैं।

II. W, Z का भाई हैं, जिसकी मां X हैं।

if the data in statement I alone are sufficient to answer the question, while the data in statement II alone are not sufficient to answer the question.

A

यदि अकेले कथन I में दिए गए आंकड़े इस प्रश्न का उत्तर देने के लिए पर्याप्त हैं। जबकि अकेले कथन II में दिए गए आंकड़े इस प्रश्न का उत्तर देने के लिए पर्याप्त नहीं हैं।

if the data in statement II alone are sufficient to answer the question, while the data in statement I alone are not sufficient to answer the question.

B

यदि अकेले कथन II में दिए गए आंकड़े इस प्रश्न का उत्तर देने के लिए पर्याप्त हैं। जबकि अकेले कथन I में दिए गए आंकड़े इस प्रश्न का उत्तर देने के लिए पर्याप्त नहीं हैं।

if the data either in statement I alone or in statement II alone are sufficient to answer the question.

C

यदि या तो अकेले कथन I में दिए गए आंकड़े या कथन II में दिए गए आंकड़े इस प्रश्न का उत्तर देने के लिए पर्याप्त हैं।

if the data even in both statements I and II together are not sufficient to answer the question.

D

यदि दोनों कथनों I एवं II में दिए गए आंकड़े एक साथ प्रश्न का उत्तर देने के लिए पर्याप्त नहीं हैं।

Correct Ans : B

Subject : General Aptitude Graduate

Q.No: 54 If the salary of A is 25% more than B, then by what percent the salary of B is less than A?
2641081

यदि A का वेतन B से 25% अधिक है, तो B का वेतन A से कितने प्रतिशत कम है?

25

A

25

20

B

20

33

C

33

40

D

40

Correct Ans : B

Subject : General Aptitude Graduate

Q.No: 55
2642125 In a certain code if 'M' denotes '+', 'N' denotes 'X', 'O' denotes '-' and 'P' denotes '.', then what will be the value of 3N39M13O7P16M4N2?

एक निश्चित कोड में यदि 'M', '+' को दर्शाता है, 'N', 'X' को दर्शाता है, 'O', '-' को दर्शाता है और 'P', '.' को दर्शाता है, तो 3N39M13O7P16M4N2 का मान क्या होगा?

6

A

6

8

B

8

3

C

3

5

D

5

Correct Ans : B

Subject : General Aptitude Graduate

Q.No: 56
2663889 A, B, C, D, E, F and G are sitting in a circle facing at the centre and playing cards. E is neighbour of A and D, who is sitting third to the right of B. G is not between F and C, if seen in anticlockwise direction starting from F. F is to the immediate right of A. Which of the following pairs has the 2nd person sitting immediately to the right of the first?

A, B, C, D, E, F और G केंद्र की ओर मुख करके एक वृत्त में बैठे हैं और ताश खेल रहे हैं। E, A और D का पड़ोसी है, जो B के दायें से तीसरे स्थान पर बैठा है। G, F और C के बीच नहीं है, यदि F से शुरू करते हुए वामावर्त दिशा में देखा जाता है। F, A के ठीक दायें है। निम्नलिखित में से किस जोड़े में दूसरा व्यक्ति पहले के ठीक दायें बैठा है?

AB

A

AB

CB

B

CB

C

EA

EA

DG

D

DG

Correct Ans : C

Subject : **General Aptitude Graduate**

Q.No: 57 Select the related word/letter/number from the given alternatives.

2665101

Steam: 100 degrees:: Ice: ?

निम्नलिखित विकल्पों में से संबंधित शब्द/अक्षर/संख्या चुनें।

भाप: 100 डिग्री :: बर्फ: ?

0 degrees

A

0 डिग्री**10 degrees**

B

10 डिग्री**-10 degrees**

C

-10 डिग्री**-25 degrees**

D

-25 डिग्री

Correct Ans : A

Subject : **General Aptitude Graduate**

Q.No: 58 What should be added to 1670 to make it a perfect square?

2670545

1670 को पूर्ण वर्ग बनाने के लिए इसमें कौन-सी संख्या को जोड़ा जाना चाहिए?

12

A

12**11**

B

11

14

C

14

16

D

16

Correct Ans : B

Subject : **General Aptitude Graduate**

Q.No: 59 If 70% of total articles are sold at a profit of 20% and remaining articles are sold at a loss of 20%, then what will be the overall profit percentage?
2671111

यदि कुल वस्तु का 70%, 20% के लाभ पर और शेष 20% की हानि पर बेचा जाता है, तो कुल लाभ प्रतिशत क्या होगा?

8

A

8

12

B

12

16

C

16

6

D

6

Correct Ans : A

Subject : **General Aptitude Graduate**

Q.No: 60 **Directions:** three statements and Four conclusions are given in this question. Read the statements carefully and understand which of the conclusions are correct by logically.
2679754

Statements:

All doors are buses.

All buses are leaf.

No leaf is a flower.

Conclusions:

I. No flower is a door.

II. No flower is a bus.

III. Some leaves are doors.

IV. Some leaves are buses.

निर्देश: इस प्रश्न में तीन कथन और चार निष्कर्ष दिए गए हैं। कथनों को ध्यान से पढ़ें और समझें कि कौन से निष्कर्ष तार्किक रूप से सही हैं।

कथन:

सभी दरवाजे बसें हैं।

सभी बसें पत्ते हैं।

कोई पत्ता फूल नहीं है।

निष्कर्ष:

I. कोई फूल दरवाजा नहीं है।

II. कोई फूल बस नहीं है।

III. कुछ पत्ते दरवाजे हैं।

IV. कुछ पत्ते बसें हैं।

None follows

A

कोई भी अनुसरण नहीं करता है

Only I and II follow

B

केवल I और II अनुसरण करते हैं

Only II and III follow

C

केवल II और III अनुसरण करते हैं

All follow

D

सभी अनुसरण करते हैं

Correct Ans : D

Subject : **General Aptitude Graduate**

Q.No: 61 In question, a few statements have been given followed by two conclusions based on them. Consider the statements to be true and answer which of the given conclusions logically follow the statement.

2679937

Statement I: Only biscuits are chocolate.

Statement II: Only few biscuits are snacks.

Statement III: All snacks are beverages.

Conclusion I: Some biscuits are not snacks is a possibility.

Conclusion II: Some chocolates are snacks is a possibility.

प्रश्न में, कुछ कथन दिए गए हैं और उनके आधार पर दो निष्कर्ष दिए गए हैं।

कथनों को सत्य मानें और उत्तर दें कि दिए गए निष्कर्षों में से कौन-सा कथन तार्किक रूप से अनुसरण करता है।

कथन I: केवल बिस्कुट चॉकलेट हैं।

कथन II: केवल कुछ बिस्कुट सैक्स हैं।

कथन III: सभी सैक्स पेय पदार्थ हैं।

निष्कर्ष I: कुछ बिस्कुट के सैक्स नहीं होने की संभावना है।

निष्कर्ष II: कुछ चॉकलेट के सैक्स होने की संभावना है।

only conclusion I follow

A

केवल निष्कर्ष I अनुसरण करता है

only conclusion II follows

B

केवल निष्कर्ष II अनुसरण करता है

conclusion I and II both follow

C

निष्कर्ष I और II दोनों अनुसरण करते हैं

neither conclusion I nor conclusion II follows

D

न तो निष्कर्ष I और न ही निष्कर्ष II अनुसरण करता है

Correct Ans : B

Subject : **General Aptitude Graduate**

Q.No: 62 How many litres of water should be added to 60 litres of milk and water containing milk and water in the ratio of 13:7 such that the resultant mixture has 48% water in it?
2695602

13:7 के अनुपात में दूध और पानी के 60 लीटर मिश्रण में कितने लीटर पानी मिलाया जाना चाहिए ताकि परिणामी मिश्रण में 48% पानी हो?

10 litre

A

10 लीटर

15 litre

B

15 लीटर

5 litre

C

5 लीटर

20 litre

D

20 लीटर

Correct Ans : B

Subject : **General Aptitude Graduate**

Q.No: 63 A's father is B's son. D is the paternal uncle of E and E is the brother of B. How is E related to D?
2755666

A का पिता B का पुत्र है। D, E का चाचा है तथा E, B का भाई है। E, D से किस प्रकार संबंधित है?

Son

A

पुत्र

Brother

B

भाई

Father

C

पिता

Grandson

D

पोता

Correct Ans : **B**

Subject : **General Aptitude Graduate**

Q.No: 64 Count the number of triangles in the given figure:
2755679



दी गई आकृति में त्रिभुजों की संख्या गिनें:



28

A

28

34

B

34

C

30

30

32

D

32

Correct Ans : B

Subject : **General Aptitude Graduate**

Q.No: 65 In a certain coded language, if STRIDE is coded as RTSEDI, CATERS is coded as TACSRE, Then, what will be the code for BOWLER in that coded language?
2755714

एक निश्चित कूट भाषा में, यदि STRIDE को RTSEDI के रूप में कूटित किया जाता है, CATERS को TACSRE के रूप में कूटित किया जाता है, तो उस कूट भाषा में BOWLER के लिए क्या कूट होगा?

WOBREL

A

WOBREL

WOBLER

B

WOBLER

OBWELR

C

OBWELR

WBOREL

D

WBOREL

Correct Ans : A

Subject : **General Aptitude Graduate**

Q.No: 66 Complete the following series.
2755738

T2B, R4D, P6F, N8H, L10J, ?

निम्नलिखित श्रृंखला को पूरा कीजिए।

T2B, R4D, P6F, N8H, L10J, ?

J12L

A

J12L

B

J14K

J14K

J10L

C

J10L

J11L

D

J11L

Correct Ans : A

Subject : **General Aptitude Graduate**

Q.No: 67 In a class of 80 students and 4 teachers, each student got sweets that are 25% of the total number of students, while each teacher got sweets that are 30% of the total number of students. How many sweets are there?
2629518

80 विद्यार्थियों और 4 शिक्षकों की एक कक्षा में, प्रत्येक विद्यार्थी को उतनी मिठाई मिली, जो विद्यार्थियों की कुल संख्या का 25% है, जबकि प्रत्येक शिक्षक को उतनी मिठाई मिली, जो विद्यार्थियों की कुल संख्या का 30% है, तो कितनी मिठाईयां हैं?

1696

A

1696

1600

B

1600

1969

C

1969

1796

D

1796

Correct Ans : A

Subject : **General Maths graduate**

Q.No: 68 The average of eleven number is 54. The average of the first four number is 48 and that of the next four numbers is 25% more than the average of the first four. The ninth number is 8 greater than the 11th number and the tenth number is 4 greater than the 11th number. What is the average of the 9th and the 10th numbers?
2643051

ग्यारह संख्याओं का औसत 54 है। पहली चार संख्याओं का औसत 48 है और अगली चार संख्याओं का औसत पहले चार की तुलना में 25% अधिक है। नौवीं संख्या 11वीं संख्या से 8 अधिक है और दसवीं संख्या, 11वीं संख्या से 4 अधिक है। 9वीं और 10वीं संख्याओं का औसत क्या है?

54

A

54

52.6

B

52.6

56

C

56

54.4

D

54.4

Correct Ans : C

Subject : **General Maths graduate**

Q.No: 69 **2643459** The sum of a fraction and 4 times its reciprocal is $\frac{13}{3}$. What is the fraction?

एक भिन्न और उस भिन्न के व्युत्क्रम के 4 गुणा का योग $\frac{13}{3}$ है। वह भिन्न क्या है?

$\frac{4}{3}$

A

$\frac{4}{3}$

$\frac{3}{4}$

B

$\frac{3}{4}$

$\frac{5}{4}$

C

$\frac{5}{4}$

$\frac{4}{5}$

D

$\frac{4}{5}$

Correct Ans : A

Subject : **General Maths graduate**

Q.No: 70 What value will come in place of question mark (?) in the following question?
2645778

$$\sqrt{144} + ? = 4\frac{3}{6} \text{ of } 42$$

निम्नलिखित प्रश्न में प्रश्न चिह्न (?) के स्थान पर क्या मान आएगा?

$$\sqrt{144} + ? = 4\frac{3}{6} \text{ of } 42$$

171

A

171

167

B

167

163

C

163

177

D

177

Correct Ans : D

Subject : General Maths graduate

Q.No: 71 What is the answer to the following question?
2667168

$$144 \div 6 - 12 \times 9 + 64 = ?$$

निम्नलिखित समीकरण का उत्तर क्या है?

$$144 \div 6 - 12 \times 9 + 64 = ?$$

-26

A

-26

-20

B

-20

20

C

20

D

24

24

Correct Ans : B

Subject : General Maths graduate

Q.No: 72
2667228 $\left(\frac{1}{2}\right)^{-\frac{1}{2}}$ is equal to:

$\left(\frac{1}{2}\right)^{-\frac{1}{2}}$ के बराबर है:

$$\frac{1}{\sqrt{2}}$$

A

$$\frac{1}{\sqrt{2}}$$

B

$$2\sqrt{2}$$

$$2\sqrt{2}$$

C

$$-\sqrt{2}$$

$$-\sqrt{2}$$

D

$$\sqrt{2}$$

$$\sqrt{2}$$

Correct Ans : D

Subject : General Maths graduate

Q.No: 73
2667388 What value would come in place of the question mark (?) in the following equation?

$$703 \div 19 \times 13 + 24 \% \text{ of } 250 - 18 \% \text{ of } 450 = ?$$

निम्नलिखित समीकरण में प्रश्नवाचक चिन्ह (?) के स्थान पर क्या मान आएगा?

$$703 \div 19 \times 13 + 250 \text{ का } 24 \% - 450 \text{ का } 18 \% = ?$$

380

A

380

430

B

430

C

460

460

520

D

520

Correct Ans : C

Subject : General Maths graduate

Q.No: 74 Two cylinders of equal volume have heights in the ratio 1:16. The ratio of their radii is?
2671522

समान आयतन के दो बेलनों की ऊँचाई 1:16 के अनुपात में है। उनकी त्रिज्याओं का अनुपात है?

1:4

A

1:4

4:1

B

4:1

1:2

C

1:2

2:1

D

2:1

Correct Ans : B

Subject : General Maths graduate

Q.No: 75 If the average of x and $\frac{1}{x}$ ($x \neq 0$) is M , then the average of x^2 and $\frac{1}{x^2}$ is:
2672498

यदि x तथा $\frac{1}{x}$ ($x \neq 0$) का औसत M हो, तो x^2 और $\frac{1}{x^2}$ का औसत कितना होगा?

1-M²

A

1-M²

1-2M

B

1-2M

C

2M²-1

$$2M^2-1$$

$$2M^2+1$$

D

$$2M^2+1$$

Correct Ans : C

Subject : **General Maths graduate**

Q.No: 76 **2673041** A started a work and left working after 9 days now B finished the remaining work in 24 days. Had A left the work after working for 13 days then B would have finished the remaining work in next 18 days. Then find in how many days A and B together can complete the work

A ने एक कार्य शुरू किया और 9 दिनों के बाद काम करना छोड़ दिया अब B ने शेष कार्य को 24 दिनों में पूरा कर लिया। अगर A ने 13 दिन काम करने के बाद काम छोड़ा होता तो B ने अगले 18 दिनों में शेष काम पूरा कर लिया होता। ज्ञात किजिए कि A और B एक साथ कितने दिनों में काम पूरा कर सकते हैं?

12 days

A

12 दिन

15 days

B

15 दिन

16 days

C

16 दिन

18 days

D

18 दिन

Correct Ans : B

Subject : **General Maths graduate**

Q.No: 77 **2673072** 8 men or 17 women can paint a house in 33 days. The number of days required by 12 men and 24 women to paint such three houses at the same rate is:

8 पुरुष या 17 महिलाएँ एक घर को 33 दिन में पेंट कर सकते हैं। 12 पुरुषों तथा 24 महिलाओं द्वारा ऐसे तीन घरों को उसी दर से पेंट करने के लिए आवश्यक दिनों की संख्या है:

44

A

44

43

B

43

34

C

34

66

D

66

Correct Ans : C

Subject : **General Maths graduate**

Q.No: 78 27 men or 45 women can do a piece of work in 52 days. In how many days 16 men and 21 women can complete 1/3rd of whole work?
2673073

27 पुरुष या 45 महिलाएं 52 दिनों में एक काम कर सकती हैं। 16 पुरुष और 21 महिलाएं मिलकर पूरे काम का 1/3 भाग कितने दिनों में पूरा कर सकते हैं?

 $16 \frac{4}{11}$

A

 $16 \frac{4}{11}$

15

B

15

 $24 \frac{6}{11}$

C

 $24 \frac{6}{11}$

12

D

12

Correct Ans : A

Subject : **General Maths graduate**

Q.No: 79 The average of eight successive number is 6.5. The average of the smallest and the greatest numbers among them will be:
2680070

आठ क्रमागत संख्याओं का औसत 6.5 है। सबसे छोटी तथा सबसे बड़ी संख्या का औसत ज्ञात कीजिए।

4

A

4

6.5

B

6.5

7.5

C

7.5

9

D

9

Correct Ans : B

Subject : **General Maths graduate**

Q.No: 80 In what ratio are the volumes of a cylinder, a cone and a sphere if each has the same diameter and Same height?
2687464

यदि एक बेलन, एक शंकु और एक गोला में प्रत्येक का व्यास समान है और ऊंचाई समान है तो उनका आयतन किस अनुपात में होगा?

1 : 3 : 2

A

1 : 3 : 2

2 : 3 : 1

B

2 : 3 : 1

3 : 1 : 2

C

3 : 1 : 2

3 : 2 : 1

D

3 : 2 : 1

Correct Ans : C

Subject : **General Maths graduate**

Q.No: 81 The number of boys and girls in a class is in the ratio 5 : 3. 20% of the boys denied to go for a picnic while 30 girls are ready to go for the picnic. If total 94 students are ready to go for the picnic, then what is the total number of girls in the class?
2687788

एक कक्षा में लड़कों और लड़कियों की संख्या 5 : 3 के अनुपात में है। 20% लड़कों ने पिकनिक के लिए जाने से इनकार कर दिया, जबकि 30 लड़कियां पिकनिक जाने के लिए तैयार हैं। यदि कुल 94 छात्र पिकनिक जाने के लिए तैयार हैं, तो कक्षा में लड़कियों की कुल संख्या क्या है?

48

A

48

33

B

33

39

C

39

51

D

51

Correct Ans : A

Subject : **General Maths graduate**

Q.No: 82 A cyclist covers a distance of 15 km in 20 minutes. if his speed increases by 3 km/hr. What is the time taken by him to cover the same distance?
2693773

एक साइकिल चालक 20 मिनट में 15 किमी की दूरी तय करता है। यदि उसकी गति 3 किमी/घंटा बढ़ जाती है। समान दूरी को तय करने के लिए उसके द्वारा लिया गया समय क्या है?

17:30 min

A

17:30 मिनट

18 min

B

18 मिनट

18:45 min

C

18:45 मिनट

18:30 min

D

18:30 मिनट

Correct Ans : C

Subject : **General Maths graduate**

Q.No: 83 What should come in place of the question mark (?) in the following question?
2727258

$$\frac{\frac{5}{8} \times 2\frac{2}{5} - \frac{5}{4}}{1\frac{1}{4}} = ?$$

निम्नलिखित प्रश्न में प्रश्न चिन्ह (?) के स्थान पर क्या आना चाहिए?

$$\frac{\frac{5}{8} \times 2\frac{2}{5} - \frac{5}{4}}{1\frac{1}{4}} = ?$$

$$\frac{1}{5}$$

A

$$\frac{1}{5}$$

$$\frac{4}{5}$$

B

$$\frac{4}{5}$$

$$\frac{6}{5}$$

C

$$\frac{6}{5}$$

$$\frac{8}{5}$$

D

$$\frac{8}{5}$$

Correct Ans : A

Subject : **General Maths graduate**

Q.No: 84 निम्नलिखित में से "आजन्म" में कौन-सा समास है ?
2660129

- A कर्मधारय समास
- B द्वन्द्व समास
- C अव्ययीभाव समास
- D तत्पुरुष समास

Correct Ans : C

Subject : **General Hindi graduate**

Q.No: 85 निम्नलिखित शब्द-समूहों में से कौन-सा विकल्प विदेशी शब्दों का सही उदाहरण है?
2660233

- A ठेस, पैसा, कसरत
- B खड़खड़ाना, काया, चेला
- C यूनिफॉर्म, रेल, टिकट
- D जूता, पगड़ी, बाप

Correct Ans : **C**

Subject : **General Hindi graduate**

Q.No: 86 निम्नलिखित में से शब्द-युग्म "अपर - अपार" के सही अर्थ भेद का चयन कीजिए-
2660465

- A अनिल - वायु
- B दूसरा- असीम
- C अन्त्य - नीच
- D अजया - भाँग/बरकी

Correct Ans : **B**

Subject : **General Hindi graduate**

Q.No: 87 निम्नलिखित में से किस विकल्प में सभी शब्द पुल्लिंग हैं?
2660753

- A गोष्ठी, चींटी, हड्डी
- B जीभ, वेणी, चोटी
- C वर, कोकिल, स्पार
- D दाल, खीर, चपाती

Correct Ans : **C**

Subject : **General Hindi graduate**

Q.No: 88 निम्न में से विस्मयादिबोधक शोकबोधक अव्ययों का चयन कीजिए-
2660892

- A राम-राम!, थू-थू! छि:!!-छि:!! धत! धिक्!
- B शाबाश! खूब!
- C हाय! हा! ऊँह! उफ! त्राहि-त्राहि
- D अहा! वाह! वाह-वाह

Correct Ans : **C**

Subject : **General Hindi graduate**

Q.No: 89 निम्नलिखित में से कौन-सा वाक्य, भाववाच्य का उदाहरण नहीं है?
2661188

- A बच्चों से शांत नहीं रहा जाता।

- B** राज्यों को अनुदान दिया गया।
C हमसे हँसा नहीं जाता।
D चलो, अब सोया जाय।

Correct Ans : **B**

Subject : **General Hindi graduate**

Q.No: 90 वाक्य "उनसे गाया नहीं जाता।" से संबंधित वाच्य निम्न में से कौन-सा है?
2661195

- A** भाववाच्य
B कर्तृवाच्य
C कर्मवाच्य
D क्रियावाच्य

Correct Ans : **A**

Subject : **General Hindi graduate**

Q.No: 91 निम्न में से किस विकल्प में उद्धरण चिन्ह का प्रयोग सही किया गया है?
2661267

- A** मैंने 'कबीरदास' जी का बीजक पढ़ा है।
B जब मेरे पास रूपये होंगे; तब मैं आपकी सहायता करूँगा।
C वह कार्यालय न जा सका, क्योंकि अस्वस्थ था।
D वाह! वाह! फिर कार चलाइए!

Correct Ans : **A**

Subject : **General Hindi graduate**

Q.No: 92 निम्नलिखित प्रश्न में पांच कथन दिए गए हैं। इन्हें इस तरह क्रमबद्ध कीजिए कि उनसे एक अर्थपूर्ण परिच्छेद बन जाए, फिर उसके बाद दिए गए विकल्पों में से सही विकल्प का चयन कीजिए।

- A. व्यंजन कहलाती हैं। दूसरे शब्दों में,
 B. जिन ध्वनियों के उच्चारण में हवा मुख-विवर से अबाध गति से नहीं निकलती,
 C. वे ध्वनियाँ जो बिना स्वरों की सहायता लिए उच्चारित नहीं हो सकती हैं,
 D. वरन् उसमें पूर्ण या अपूर्ण अवरोध होता है,
 E. व्यंजन कहलाती हैं।

- A** **ABDCE**
B **BDACE**
C **EDABC**
D **CDBAE**

Correct Ans : **B**

Subject : **General Hindi graduate**

Q.No: 93 निम्नलिखित में से "कार्तिकेय " का पर्यायवाची शब्द क्या है?
2666461

- A प्रभा
B षडानन
C बियावान
D स्पृहा

Correct Ans : B

Subject : **General Hindi graduate**

Q.No: 94 मिश्रवाक्य "वह उस विद्यालय में पढ़ा जो उसके गाँव के निकट था।", का सही संयुक्त वाक्य निम्न में से क्या होगा?
2666932

- A वह विद्यालय में पढ़ा और वह विद्यालय उसके गाँव के निकट था।
B वह विद्यालय में पढ़ने गया जो गांव के निकट था।
C वह विद्यालय में पढ़ने गया जो उसके गाँव के करीब था।
D वह विद्यालय पढ़ने गया और गाँव भी निकट था।

Correct Ans : A

Subject : **General Hindi graduate**

Q.No: 95 निम्नलिखित में से "नारीश्वर" किस संधि का सही उदाहरण है?
2667554

- A वृद्धि स्वर संधि
B यण् स्वर संधि
C दीर्घ स्वर संधि
D गुण स्वर संधि

Correct Ans : C

Subject : **General Hindi graduate**

Q.No: 96 निम्नलिखित में से कौन-सा शब्द प्रत्यय का प्रयोग कर बनाया गया है?
2667965

- A उपवन
B अचेत
C अधिकरण
D पुरुषत्व

Correct Ans : D

Subject : **General Hindi graduate**

Q.No: 97 निम्नलिखित में से आदरसूचक निपात का उदाहरण कौन-सा है ?
2668129

- A रात तक मत जागो।
B कल से ही वह बिमार है।
C पंडित जी आ चुके हैं।
D केवल मोहन ही आ रहा है।

Correct Ans : C

Test

Prime

By Adda247

Previous Year Papers PDF

PRACTICE MORE, SCORE HIGHER!



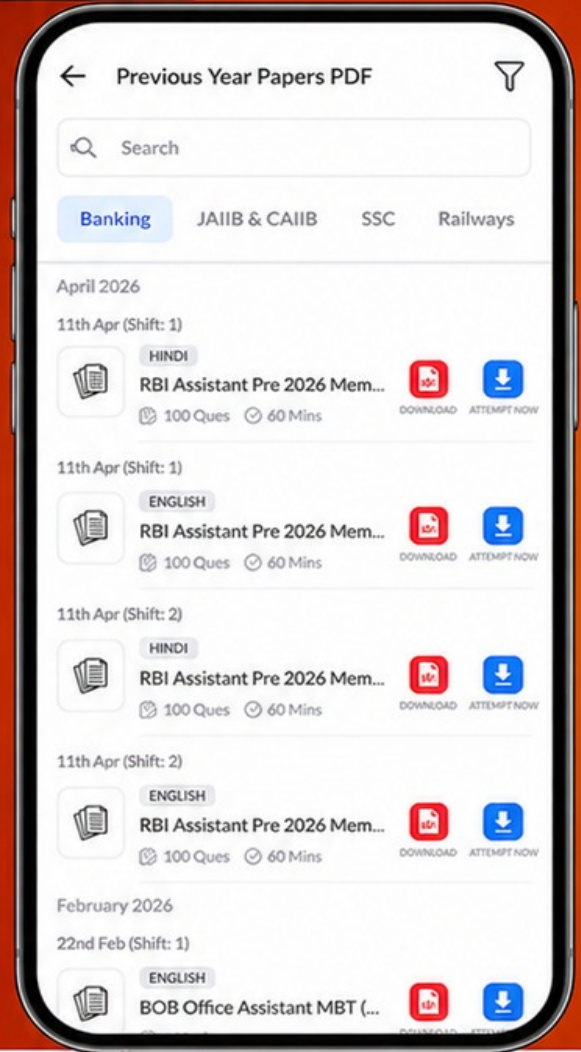
Free
25,000+
PDF's

High-Quality | Exam-Wise | Updated Regularly

ATTEMPT AS
MOCK



Turn PDFs into real exam experience.
Analyze. Improve. Succeed.



Topic-wise & Exam-wise PDFs



Download & Study Offline



Attempt as Mock & Track Score



Smart Analysis & Performance

AVAILABLE IN



Banking



SSC



Railway



Teaching



UGC



Agriculture



Nursing



Bihar



UP



Punjab



WB



Odisha



TN



AP & Telangana



Haryana



DOWNLOAD THE APP



Subject : **General Hindi graduate**

Q.No: 98 निम्नलिखित में से 'शराब एक नशा है; इससे दूर रहो' -वाक्य में प्रयुक्त चिह्न कौन-सा है ?
2668364

- A अल्पविराम चिह्न
- B लाघव चिह्न
- C योजक चिह्न
- D अर्द्ध विराम चिह्न

Correct Ans : **D**

Subject : **General Hindi graduate**

Q.No: 99 नीचे दिए गए वाक्य में निम्नलिखित में से किस चिह्न का प्रयोग किया गया है?
2692070

यह सरकार निकम्मी है; बेरोजगारों की संख्या बढ़ती जा रही

- A अर्द्धविराम चिह्न
- B अल्पविराम चिह्न
- C उपविराम चिह्न
- D योजक चिह्न

Correct Ans : **A**

Subject : **General Hindi graduate**

Q.No: 100 निम्नलिखित में से वाक्य में रेखांकित वाक्यांश के लिए नीचे दिए गए विकल्पों में से उचित मुहावरे का चयन कीजिए-
2692133

पुलिस के सख्ती करते ही चोरों ने (सब उगल दिया।)

- A नौ दो ग्यारह हो गए।
- B गुड़िया का खेल न होना।
- C चाँदी काटना
- D कच्चा चिट्ठा खोलना।

Correct Ans : **D**

Subject : **General Hindi graduate**