



GOVT. OF NCT OF DELHI
Delhi Subordinate Services Selection Board
FC-18, Institutional Area, Karkardooma, Delhi – 110092.
www.dsssb.delhigovt.nic.in

Participant ID	
Participant Name	
Test Center Name	Aadarsh Pariksha Kendra CENTER C - Gate No 2 - Noida Sector 64
Test Date	27/04/2026
Test Time	1:00 PM - 3:00 PM
Subject	Multi Tasking Staff

Section : General intelligence and Reasoning Ability

Q.1 एक कथन और उसके बाद I और II से क्रमांकित दो निष्कर्ष दिए गए हैं। ज्ञात कीजिए कि दिए गए कथन के आधार पर कौन-से निष्कर्ष सत्य हैं।

कथन: $R \leq C > S > W \geq D$

निष्कर्ष:

I. $R \leq S$

II. $D < C$

- Ans 1. केवल II सत्य है
 2. न तो I और न ही II सत्य है
 3. केवल I सत्य है
 4. I और II दोनों सत्य हैं

Question ID : 441009840017
Option 1 ID : 4410093313137
Option 2 ID : 4410093313139
Option 3 ID : 4410093313136
Option 4 ID : 4410093313138

Q.2 यदि शब्द BIRTHDAY के प्रत्येक अक्षर को उल्टे वर्णमाला क्रम में व्यवस्थित किया जाए, तो कितने अक्षरों की स्थिति अपरिवर्तित रहेगी?

- Ans 1. चार
 2. तीन
 3. दो
 4. एक

Question ID : 441009840468
Option 1 ID : 4410093314943
Option 2 ID : 4410093314942
Option 3 ID : 4410093314941
Option 4 ID : 4410093314940

**Test
Prime**

By Adda247

ALL EXAMS, ONE SUBSCRIPTION



Test. Analyze. Improve. Repeat.



Don't just *prepare*. Perform.

Test Prime — built only for mock tests.



1,50,000+
Mock Tests



25,000+
Previous Year Papers



800+
Exam Covered



500% Refund
on Selection



5 lakh+
Free Quizzes



Daily
Free PDFs



Job Alerts
Stay Updated

- Multilingual
- Detailed Solution
- Strong and Weak Areas



**All India
Rankings**

Compete with lakhs.
Rank. Improve. Repeat.



← Adda247 test prime

Rating ▾

Editors' choice

New



Adda247 Test Prime
Adda Education • Education
Installed



DOWNLOAD THE APP



Q.3 सात डिब्बे A, E, I, O, U, P और Q एक के ऊपर एक रखे गए हैं, लेकिन जरूरी नहीं कि उनका क्रम यही हो। केवल A को U के ऊपर रखा गया है। U और E के बीच केवल Q को रखा गया है। P के नीचे केवल I को रखा गया है। O और I के बीच कितने डिब्बे रखे गए हैं?

- Ans
- 1. तीन
 - 2. एक
 - 3. दो
 - 4. चार

Question ID : 441009839976
Option 1 ID : 4410093312974
Option 2 ID : 4410093312972
Option 3 ID : 4410093312973
Option 4 ID : 4410093312975

Q.4 एक निश्चित कूट भाषा में, 'CAST' को '8469' के रूप में कूटबद्ध किया जाता है और 'MEAN' को '3815' के रूप में कूटबद्ध किया जाता है। दी गई कूट भाषा में 'A' के लिए कूट क्या है?

- Ans
- 1. 8
 - 2. 5
 - 3. 4
 - 4. 1

Question ID : 441009811584
Option 1 ID : 4410093200459
Option 2 ID : 4410093200462
Option 3 ID : 4410093200461
Option 4 ID : 4410093200460

Q.5 एक निश्चित कूट भाषा में, 'MINT' को '6128' के रूप में कूटबद्ध किया जाता है और 'ANTI' को '2836' के रूप में कूटबद्ध किया जाता है। दी गई कूट भाषा में 'A' का कूट क्या होगा?

- Ans
- 1. 8
 - 2. 3
 - 3. 2
 - 4. 6

Question ID : 441009840481
Option 1 ID : 4410093314995
Option 2 ID : 4410093314992
Option 3 ID : 4410093314993
Option 4 ID : 4410093314994

Q.6 यदि शब्द INJECTS के प्रत्येक अक्षर को अंग्रेजी वर्णमाला क्रम में व्यवस्थित किया जाए, तो कितने अक्षरों की स्थिति अपरिवर्तित रहेगी?

- Ans
- 1. 3
 - 2. 0
 - 3. 2
 - 4. 1

Question ID : 441009838588
Option 1 ID : 4410093307423
Option 2 ID : 4410093307420
Option 3 ID : 4410093307422
Option 4 ID : 4410093307421

Q.7 दिए गए कथनों और निष्कर्षों को ध्यानपूर्वक पढ़ें। आपको दिए गए कथनों को सत्य मानना है, भले ही वे सामान्य रूप से ज्ञात तथ्यों से भिन्न प्रतीत हों। आपको यह निर्धारित करना है कि दिए गए निष्कर्षों में से कौन-से निष्कर्ष तार्किक रूप से कथनों का अनुसरण करते हैं?

कथन: कुछ प्रोक्टोस्कोप, डिफिब्रिलेटर हैं। सभी पेनलाइट, डिफिब्रिलेटर हैं।
निष्कर्ष (I): कुछ प्रोक्टोस्कोप, पेनलाइट हैं।
निष्कर्ष (II): सभी डिफिब्रिलेटर, पेनलाइट हैं।

- Ans
- 1. निष्कर्ष (I) और (II) दोनों अनुसरण करते हैं
 - 2. न तो निष्कर्ष (I) और न ही (II) अनुसरण करता है
 - 3. केवल निष्कर्ष (I) अनुसरण करता है
 - 4. केवल निष्कर्ष (II) अनुसरण करता है

Question ID : 441009839895
Option 1 ID : 4410093312649
Option 2 ID : 4410093312648
Option 3 ID : 4410093312651
Option 4 ID : 4410093312650

Q.8 यदि शब्द NIGHTCAP के प्रत्येक अक्षर को अंग्रेजी वर्णानुक्रम में व्यवस्थित किया जाए, तो कितने अक्षरों की स्थिति अपरिवर्तित रहेगी?

- Ans
- 1. दो
 - 2. तीन
 - 3. चार
 - 4. एक

Question ID : 441009840320
Option 1 ID : 4410093314349
Option 2 ID : 4410093314350
Option 3 ID : 4410093314351
Option 4 ID : 4410093314348

Q.9 सात व्यक्ति, A, B, C, D, E, F और G, एक पंक्ति में उत्तर दिशा की ओर अभिमुख होकर बैठे हैं। B के बाईं ओर केवल पाँच व्यक्ति बैठे हैं। E और B के बीच में केवल दो व्यक्ति बैठे हैं। A, C के दाईं ओर परंतु E के बाईं ओर बैठा है। D, F के दाईं ओर तीसरे स्थान पर बैठा है। G के बाईं ओर कितने व्यक्ति बैठे हैं?

- Ans 1. चार
 2. तीन
 3. दो
 4. एक

Question ID : 441009839990
 Option 1 ID : 4410093313030
 Option 2 ID : 4410093313028
 Option 3 ID : 4410093313031
 Option 4 ID : 4410093313029

Q.10 सभी 91 व्यक्ति एक पंक्ति में उत्तर की ओर अभिमुख होकर खड़े हैं। SD दाएं छोर से 31वें स्थान पर है जबकि XC बाएं छोर से 23वें स्थान पर है। SD और XC के बीच कितने व्यक्ति हैं?

- Ans 1. 35
 2. 39
 3. 37
 4. 32

Question ID : 441009840065
 Option 1 ID : 4410093313329
 Option 2 ID : 4410093313331
 Option 3 ID : 4410093313330
 Option 4 ID : 4410093313328

Q.11 एक निश्चित कूट भाषा में,
 $A + B$ का अर्थ है कि 'A, B का पति है'
 $A - B$ का अर्थ है कि 'A, B की माता है'
 $A \times B$ का अर्थ है कि 'A, B की बहन है'

उपरोक्त के आधार पर, यदि ' $P + Q - R \times S + T$ ' है, तो P का T से क्या संबंध है?

- Ans 1. पति का भाई
 2. बहन का पति
 3. पुत्री का पति
 4. पति का पिता

Question ID : 441009840161
 Option 1 ID : 4410093313713
 Option 2 ID : 4410093313714
 Option 3 ID : 4410093313715
 Option 4 ID : 4410093313712

Q.12 P, Q, R, S, T, U और V में से प्रत्येक की परीक्षा सोमवार से शुरू होकर रविवार को समाप्त होने वाले एक ही सप्ताह के अलग-अलग दिन है। T और Q की परीक्षाओं के बीच केवल पांच व्यक्तियों की परीक्षा है। U और Q की परीक्षाओं के बीच केवल दो व्यक्तियों की परीक्षा है। V की परीक्षा, U की परीक्षा से पहले लेकिन S की परीक्षा के बाद है। R की परीक्षा, P की परीक्षा के बाद लेकिन T की परीक्षा से पहले है। S और T की परीक्षाओं के बीच कितने व्यक्तियों की परीक्षा है?

- Ans
- 1. दो
 - 2. चार
 - 3. तीन
 - 4. पांच

Question ID : 441009839935
Option 1 ID : 4410093312811
Option 2 ID : 4410093312809
Option 3 ID : 4410093312808
Option 4 ID : 4410093312810

Q.13 एक निश्चित कूट भाषा में, 'FIRE' को '2479' के रूप में कूटबद्ध किया जाता है और 'ENDS' को '3641' के रूप में कूटबद्ध किया जाता है। दी गई कूट भाषा में 'E' के लिए कूट क्या है?

- Ans
- 1. 2
 - 2. 3
 - 3. 4
 - 4. 9

Question ID : 441009838601
Option 1 ID : 4410093307473
Option 2 ID : 4410093307474
Option 3 ID : 4410093307472
Option 4 ID : 4410093307475

Q.14 यदि HERITAGE शब्द के प्रत्येक अक्षर को अंग्रेजी वर्णानुक्रम में व्यवस्थित किया जाए, तो कितने अक्षरों की स्थिति अपरिवर्तित रहेगी?

- Ans
- 1. दो
 - 2. चार
 - 3. तीन
 - 4. एक

Question ID : 441009840464
Option 1 ID : 4410093314925
Option 2 ID : 4410093314927
Option 3 ID : 4410093314926
Option 4 ID : 4410093314924

Q.15 W, R की पत्नी है। R, L का पिता है। L, D का भाई है। W का D से क्या संबंध है?

- Ans 1. माता
 2. बहन
 3. पत्नी
 4. पुत्री

Question ID : 441009384785
 Option 1 ID : 4410091504792
 Option 2 ID : 4410091504790
 Option 3 ID : 4410091504793
 Option 4 ID : 4410091504791

Q.16 शब्द BIRTHDAY के प्रत्येक स्वर को अंग्रेजी वर्णमाला क्रम में उसके ठीक बाद वाले अक्षर से बदल दिया जाता है और प्रत्येक व्यंजन को अंग्रेजी वर्णमाला क्रम में उसके ठीक पहले वाले अक्षर से बदल दिया जाता है। इस प्रकार बने नए अक्षर-समूह में दाईं ओर से दूसरा अक्षर निम्नलिखित में से कौन-सा होगा?

- Ans 1. E
 2. A
 3. B
 4. C

Question ID : 441009813443
 Option 1 ID : 4410093207897
 Option 2 ID : 4410093207898
 Option 3 ID : 4410093207895
 Option 4 ID : 4410093207896

Q.17 P, Q, R, S, T, U और V में से प्रत्येक की परीक्षा सोमवार से शुरू होकर रविवार को समाप्त होने वाले एक ही सप्ताह के अलग-अलग दिन है। U की परीक्षा गुरुवार को है। R की परीक्षा S के बाद है। Q के बाद केवल पांच व्यक्तियों की परीक्षा है। P की परीक्षा S से ठीक पहले, लेकिन U के बाद है। V की परीक्षा सोमवार को नहीं है। T और P के बीच कितने व्यक्तियों की परीक्षा है?

- Ans 1. तीन
 2. दो
 3. एक
 4. चार

Question ID : 441009839926
 Option 1 ID : 4410093312775
 Option 2 ID : 4410093312772
 Option 3 ID : 4410093312774
 Option 4 ID : 4410093312773

Q.18 इस प्रश्न में, एक कथन के बाद दो निष्कर्ष दिए गए हैं, जिन्हें I और II के रूप में क्रमांकित किया गया है। दिए गए कथन के आधार ज्ञात कीजिए कि कौन-सा/से निष्कर्ष सत्य है/हैं।

कथन: $Q > T \leq V > C \geq D$

निष्कर्ष:

I. $V < Q$

II. $D < V$

- Ans
- 1. I और II दोनों सत्य है
 - 2. न तो I न ही II सत्य है
 - 3. केवल I सत्य है
 - 4. केवल II सत्य है

Question ID : 441009840011
Option 1 ID : 4410093313114
Option 2 ID : 4410093313115
Option 3 ID : 4410093313112
Option 4 ID : 4410093313113

Q.19 निम्नलिखित शृंखला का संदर्भ लीजिए और नीचे दिए गए प्रश्न का उत्तर दीजिए (सभी संख्याएँ केवल एकल अंकीय संख्याएँ हैं)। गणना केवल बाएँ से दाएँ ही की जानी है।

(बाएँ) 4 3 6 3 1 2 1 6 7 1 7 3 8 1 6 8 4 3 7 3 3 6 3 6 4 3 5 (दाएँ)

ऐसी कितनी विषम संख्याएँ हैं, जिनमें से प्रत्येक के ठीक पहले एक विषम संख्या और ठीक बाद में एक सम संख्या है?

- Ans
- 1. तीन
 - 2. दो
 - 3. चार
 - 4. पाँच

Question ID : 441009768863
Option 1 ID : 4410093029445
Option 2 ID : 4410093029447
Option 3 ID : 4410093029446
Option 4 ID : 4410093029448

Q.20 सात व्यक्ति, S, T, U, V, X, Y और Z एक सीधी पंक्ति में उत्तर की ओर अभिमुख होकर बैठे हैं। T के बाईं ओर केवल तीन व्यक्ति बैठे हैं। V के दाईं ओर केवल U बैठा है। V और Z के बीच में केवल तीन व्यक्ति बैठे हैं। X, Y के बाईं ओर किसी स्थान पर बैठा है और S के दाईं ओर किसी स्थान पर बैठा है।

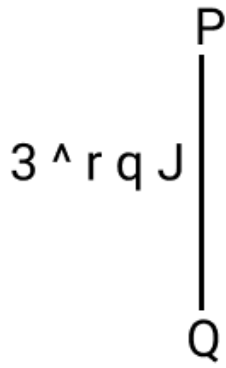
S और Y के बीच में कितने व्यक्ति बैठे हैं?

- Ans
- 1. एक
 - 2. चार
 - 3. तीन
 - 4. दो

Question ID : 441009840506
Option 1 ID : 4410093315092
Option 2 ID : 4410093315095
Option 3 ID : 4410093315094
Option 4 ID : 4410093315093

Section : General intelligence and Reasoning Ability1

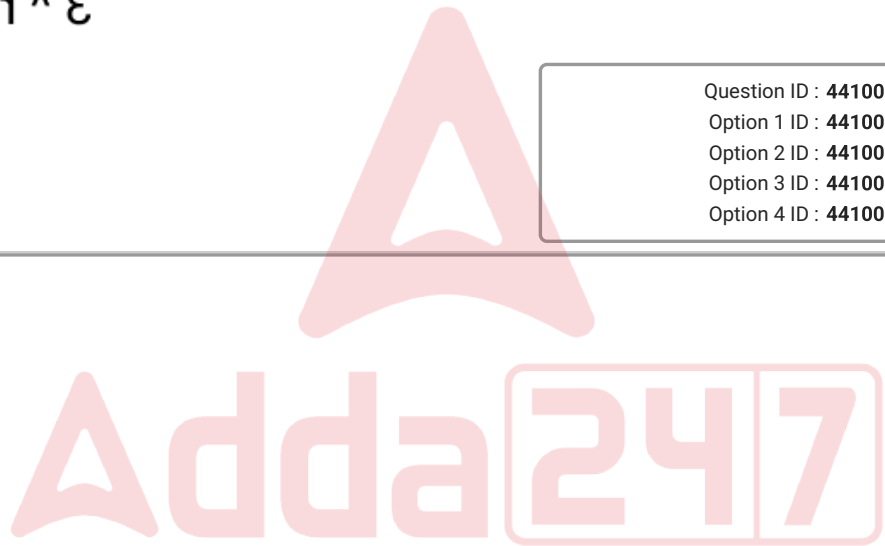
Q.1 नीचे दर्शाए अनुसार दर्पण को 'PQ' पर रखे जाने पर दिए गए संयोजन के सही दर्पण प्रतिबिंब का चयन कीजिए।



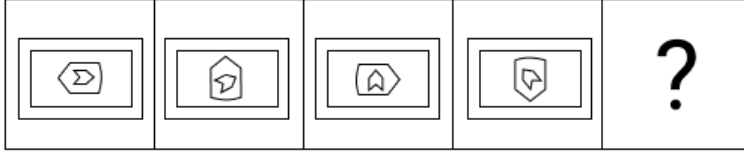
Ans

- ✗ 1. 3 v L d 7
- ✗ 2. L p 1 v ε
- ✗ 3. r b J v ε
- ✓ 4. L p 1 ^ ε

Question ID : 441009830020
 Option 1 ID : 4410093273621
 Option 2 ID : 4410093273620
 Option 3 ID : 4410093273619
 Option 4 ID : 4410093273622

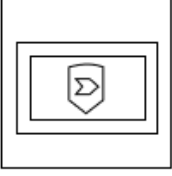


Q.2 विकल्पों में दिए गए उस चित्र की पहचान कीजिए जिसे ? के स्थान पर रखे जाने पर श्रृंखला तार्किक रूप से पूर्ण हो जाएगी।

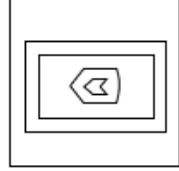


Ans

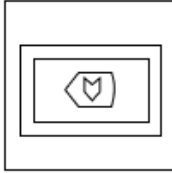
✗ 1.



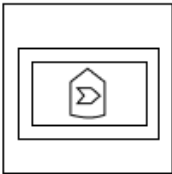
✓ 2.



✗ 3.



✗ 4.



Question ID : 441009829976
Option 1 ID : 4410093273446
Option 2 ID : 4410093273443
Option 3 ID : 4410093273445
Option 4 ID : 4410093273444

Q.3 यदि 'A' का अर्थ '+' है, 'B' का अर्थ 'x' है, 'C' का अर्थ '+' है और 'D' का अर्थ '-' है, तो निम्नलिखित समीकरण में प्रश्न-चिह्न '?' के स्थान पर क्या आएगा?
4 C 50 A 5 D 2 B 5 = ?

Ans ✓ 1. 4

✗ 2. 1

✗ 3. 3

✗ 4. 2

Question ID : 441009989504
Option 1 ID : 4410093910272
Option 2 ID : 4410093910269
Option 3 ID : 4410093910271
Option 4 ID : 4410093910270

Q.4 यदि '+' और '-' को आपस में बदल दिया जाए तथा 'x' और '÷' को आपस में बदल दिया जाए, तो निम्नलिखित समीकरण में '?' के स्थान पर क्या आएगा?

$$4 - 11 \div 18 \times 3 + 45 = ?$$

Ans 1. 25

2. 23

3. 26

4. 27

Question ID : 441009531584

Option 1 ID : 4410092081740

Option 2 ID : 4410092081742

Option 3 ID : 4410092081743

Option 4 ID : 4410092081741

Q.5 दी गई श्रृंखला में '?' के स्थान पर क्या आएगा?

$$15 \ 24 \ 46 \ 75 \ 117 \ 166 \ ?$$

Ans 1. 218

2. 281

3. 282

4. 228

Question ID : 441009532920

Option 1 ID : 4410092087085

Option 2 ID : 4410092087084

Option 3 ID : 4410092087086

Option 4 ID : 4410092087087

Q.6 यदि + और - को परस्पर बदल दिया जाए तथा x और ÷ को परस्पर बदल दिया जाए, तो निम्नलिखित समीकरण में ? के स्थान पर क्या आएगा?

$$5 + 49 \times 7 - 4 \div 8 = ?$$

Ans 1. 28

2. 29

3. 30

4. 27

Question ID : 441009983086

Option 1 ID : 4410093884817

Option 2 ID : 4410093884818

Option 3 ID : 4410093884819

Option 4 ID : 4410093884816

Q.7 दी गई श्रृंखला में '?' के स्थान पर क्या आएगा?
12 20 44 52 108 116 ?

- Ans
- 1. 263
 - 2. 246
 - 3. 236
 - 4. 264

Question ID : 441009532919
Option 1 ID : 4410092087082
Option 2 ID : 4410092087081
Option 3 ID : 4410092087083
Option 4 ID : 4410092087080

Q.8 दिए गए कथनों और निष्कर्षों को ध्यानपूर्वक पढ़ें। आपको दिए गए कथनों को सत्य मानना है, भले ही वे सामान्य रूप से ज्ञात तथ्यों से भिन्न प्रतीत हों। आपको यह निर्धारित करना है कि दिए गए निष्कर्षों में से कौन-से निष्कर्ष तार्किक रूप से कथनों का अनुसरण करते हैं?
कथन: सभी दस्ताने, जूते हैं। सभी जूते, पौधे हैं।
निष्कर्ष (I): कुछ पौधे, जूते हैं।
निष्कर्ष (II): सभी दस्ताने, पौधे हैं।

- Ans
- 1. निष्कर्ष (I) और (II) दोनों अनुसरण करते हैं
 - 2. केवल निष्कर्ष (I) अनुसरण करता है
 - 3. केवल निष्कर्ष (II) अनुसरण करता है
 - 4. न तो निष्कर्ष (I) और न ही (II) अनुसरण करता है

Question ID : 441009839900
Option 1 ID : 4410093312668
Option 2 ID : 4410093312671
Option 3 ID : 4410093312670
Option 4 ID : 4410093312669

Q.9 निम्नलिखित संख्या-युग्मों में, पहली संख्या पर कुछ गणितीय संक्रियाएँ करके दूसरी संख्या प्राप्त की गई है। X और Y को किन संख्याओं द्वारा प्रतिस्थापित किया जाना चाहिए ताकि :: के बाईं ओर की दो संख्याओं द्वारा अनुसरण किया जाने वाला पैटर्न, :: के दाईं ओर की दो संख्याओं द्वारा अनुसरण किए जाने वाले पैटर्न के समान हो?

(नोट: संख्याओं को उनके घटक अंकों में तोड़े बिना, पूर्ण संख्याओं पर संक्रियाएँ की जानी चाहिए। उदाहरण के लिए 13 को लीजिए - 13 पर संक्रियाएँ जैसे कि 13 में जोड़ना/घटाना/गुणा करना आदि 13 पर की जा सकती हैं। 13 को 1 व 3 में तोड़ना और फिर 1 व 3 पर गणितीय संक्रियाएँ करने की अनुमति नहीं है।)

X : 126 :: 17 : Y

- Ans
- 1. X = 11, Y = 174
 - 2. X = 12, Y = 176
 - 3. X = 12, Y = 170
 - 4. X = 11, Y = 189

Question ID : 441009844339
Option 1 ID : 4410093330221
Option 2 ID : 4410093330222
Option 3 ID : 4410093330220
Option 4 ID : 4410093330223

Q.10 अंग्रेजी वर्णमाला क्रम पर आधारित, निम्नलिखित चार अक्षर-समूह में से तीन एक निश्चित प्रकार से समान हैं और इस प्रकार एक ग्रुप बनाते हैं। कौन-सा अक्षर-समूह, उस ग्रुप से संबंधित नहीं है?
(नोट: असंगत अक्षर-समूह, व्यंजनों/स्वरों की संख्या या उनकी स्थिति पर आधारित नहीं है।)

- Ans
- 1. TWU
 - 2. OYR
 - 3. QTR
 - 4. KNL

Question ID : 441009839877
Option 1 ID : 4410093312579
Option 2 ID : 4410093312577
Option 3 ID : 4410093312578
Option 4 ID : 4410093312576

Q.11 निम्नलिखित संख्या-युग्मों में, पहली संख्या पर कुछ गणितीय संक्रियाएँ करके दूसरी संख्या प्राप्त की गई है। उस समुच्चय का चयन कीजिए जिसमें संख्याएँ उसी प्रकार संबंधित हैं जिस प्रकार निम्नलिखित समुच्चय की संख्याएँ संबंधित हैं।

(नोट: संख्याओं को उनके घटक अंकों में तोड़े बिना, पूर्ण संख्याओं पर संक्रियाएँ की जानी चाहिए। उदाहरण के लिए 13 को लीजिए - 13 पर संक्रियाएँ जैसे कि 13 में जोड़ना/घटाना/गुणा करना आदि 13 पर की जा सकती हैं। 13 को 1 व 3 में तोड़ना और फिर 1 व 3 पर गणितीय संक्रियाएँ करने की अनुमति नहीं है।)

685, 810
438, 563

- Ans
- 1. 213, 349
 - 2. 711, 836
 - 3. 432, 596
 - 4. 168, 269

Question ID : 441009844360
Option 1 ID : 4410093330304
Option 2 ID : 4410093330305
Option 3 ID : 4410093330306
Option 4 ID : 4410093330307

Q.12 दी गई श्रृंखला में '?' के स्थान पर क्या आएगा?
100, 90, 81, 73, 66, ?

- Ans
- 1. 60
 - 2. 61
 - 3. 58
 - 4. 62

Question ID : 4410091213711
Option 1 ID : 4410094788251
Option 2 ID : 4410094788252
Option 3 ID : 4410094788250
Option 4 ID : 4410094788253

Q.13 अंग्रेजी वर्णमाला क्रम के आधार पर, निम्नलिखित चार अक्षर-समूहों में से तीन एक निश्चित तरीके से समान हैं और इस प्रकार एक गुप बनाते हैं। कौन-सा अक्षर-समूह उस गुप से संबंधित नहीं है? (नोट: असंगत अक्षर-समूह, व्यंजनों/स्वरों की संख्या या उनकी स्थिति पर आधारित नहीं है।)

- Ans
- 1. LOJ
 - 2. ORM
 - 3. FID
 - 4. KHN

Question ID : 441009839889
Option 1 ID : 4410093312626
Option 2 ID : 4410093312627
Option 3 ID : 4410093312624
Option 4 ID : 4410093312625

Q.14 यदि 'A' का अर्थ '+' है, 'B' का अर्थ 'x' है, 'C' का अर्थ '-' है तथा 'D' का अर्थ '-' है, तो निम्नलिखित में से किसका परिणाम 1 होगा?

- Ans
- 1. 36 D 3 A 8 C 3 B 13
 - 2. 36 B 3 D 8 C 3 A 13
 - 3. 36 C 3 A 8 B 3 D 13
 - 4. 36 A 3 D 8 B 3 C 13

Question ID : 441009844161
Option 1 ID : 4410093329511
Option 2 ID : 4410093329508
Option 3 ID : 4410093329509
Option 4 ID : 4410093329510

Q.15 अंग्रेजी वर्णमाला क्रम पर आधारित, एक निश्चित तरीके से YMPR का संबंध VJMO से है। उसी प्रकार SHLU का संबंध PEIR से है। समान तर्क का अनुसरण करते हुए, WGNV का संबंध निम्नलिखित में से किससे है?

- Ans
- 1. ZJPX
 - 2. TDKS
 - 3. TJSK
 - 4. ZKQY

Question ID : 441009766571
Option 1 ID : 4410093020277
Option 2 ID : 4410093020278
Option 3 ID : 4410093020280
Option 4 ID : 4410093020279

Q.16 निम्नलिखित संख्या-युग्मों में, पहली संख्या पर कुछ गणितीय संक्रियाएँ करके दूसरी संख्या प्राप्त की गई है। X और Y को किन संख्याओं द्वारा प्रतिस्थापित किया जाना चाहिए ताकि :: के बाईं ओर की दो संख्याओं द्वारा अनुसरण किया जाने वाला पैटर्न, :: के दाईं ओर की दो संख्याओं द्वारा अनुसरण किए जाने वाले पैटर्न के समान हो?

(नोट: संख्याओं को उनके घटक अंकों में तोड़ें बिना, पूर्ण संख्याओं पर संक्रियाएँ की जानी चाहिए। उदाहरण के लिए 13 को लीजिए - 13 पर संक्रियाएँ जैसे कि 13 में जोड़ना/घटाना/गुणा करना आदि 13 पर की जा सकती हैं। 13 को 1 व 3 में तोड़ना और फिर 1 व 3 पर गणितीय संक्रियाएँ करने की अनुमति नहीं है।)

X : 187 :: 12 : Y

- Ans
- 1. X = 17, Y = 144
 - 2. X = 11, Y = 180
 - 3. X = 17, Y = 132
 - 4. X = 11, Y = 132

Question ID : 441009844334
Option 1 ID : 4410093330201
Option 2 ID : 4410093330202
Option 3 ID : 4410093330203
Option 4 ID : 4410093330200

Q.17 एक निश्चित तरीके से, MJ 19 का संबंध OL 17 से है। उसी तरीके से, QN 28 का संबंध SP 26 से है। समान तर्क का अनुसरण करते हुए, EB 35 का संबंध निम्नलिखित में से किससे है?

- Ans
- 1. GD 33
 - 2. TY 66
 - 3. SC 12
 - 4. MF 56

Question ID : 441009769000
Option 1 ID : 4410093029994
Option 2 ID : 4410093029993
Option 3 ID : 4410093029996
Option 4 ID : 4410093029995

Q.18 उस युग्म का चयन कीजिए, जो नीचे दिए गए युग्मों के दो समुच्चय के समान पैटर्न का अनुसरण करता है। दोनों युग्म समान पैटर्न का अनुसरण करते हैं।

ECE-IGI
DBD-HFH

- Ans
- 1. LIJ-PNP
 - 2. LIJ-OMO
 - 3. IJL-ONO
 - 4. IGI-MKM

Question ID : 441009757707
Option 1 ID : 4410092984823
Option 2 ID : 4410092984824
Option 3 ID : 4410092984822
Option 4 ID : 4410092984821

Q.19 यदि '+' और '-' को आपस में बदल दिया जाए तथा 'x' और '÷' को आपस में बदल दिया जाए, तो निम्नलिखित समीकरण में '?' के स्थान पर क्या आएगा?
 $16 - 24 \div 34 \times 12 + 9 = ?$

- Ans
- 1. 73
 - 2. 76
 - 3. 75
 - 4. 77

Question ID : 441009531430
 Option 1 ID : 4410092081126
 Option 2 ID : 4410092081127
 Option 3 ID : 4410092081124
 Option 4 ID : 4410092081125

Q.20 अंग्रेजी वर्णानुक्रम पर आधारित निम्नलिखित चार अक्षर-समूह युग्मों में से तीन अक्षर-समूह युग्म किसी निश्चित तरीके से समान हैं और इसलिए एक गुप बनाते हैं। कौन-सा अक्षर-समूह युग्म, उस गुप से संबंधित नहीं है?
 (नोट: असंगत अक्षर-समूह युग्म, व्यंजनों/स्वरों की संख्या या उनकी स्थिति पर आधारित नहीं है)

- Ans
- 1. XT - QM
 - 2. SP - ML
 - 3. PL - IE
 - 4. LH - EA

Question ID : 441009927149
 Option 1 ID : 4410093662665
 Option 2 ID : 4410093662664
 Option 3 ID : 4410093662663
 Option 4 ID : 4410093662662

Section : General Awareness

Q.1 भारतीय रिज़र्व बैंक के अनुसार, कार्यों और गतिविधियों के आधार पर, अखिल भारतीय वित्तीय संस्थानों को _____ खंडों में विभाजित किया गया है।

- Ans
- 1. 5
 - 2. 3
 - 3. 4
 - 4. 2

Question ID : 441009868094
 Option 1 ID : 4410093425410
 Option 2 ID : 4410093425408
 Option 3 ID : 4410093425409
 Option 4 ID : 4410093425407

Q.2 2026 में शुरू की गई भारत-विस्तार (Bharat-VISTAAR) पहल का मुख्य उद्देश्य क्या है?

- Ans
- 1. ग्रामीण अवसंरचना
 - 2. वित्तीय समावेशन
 - 3. हेल्थकेयर डिजिटलीकरण
 - 4. बहुभाषी AI-आधारित कृषि परामर्श

Question ID : 4410091785747
Option 1 ID : 4410097042153
Option 2 ID : 4410097042152
Option 3 ID : 4410097042154
Option 4 ID : 4410097042151

Q.3 In the context of the Human Development Index (HDI) and demographic studies in India, an improvement in life expectancy at birth is primarily used as a direct indicator of which of the following?

- Ans
- 1. Higher urbanization rates and rural-to-city migration
 - 2. Better overall health and living conditions
 - 3. Increased literacy rates and educational attainment
 - 4. Higher industrialization and enhanced economic growth

Question ID : 4410091730093
Option 1 ID : 4410096822767
Option 2 ID : 4410096822766
Option 3 ID : 4410096822764
Option 4 ID : 4410096822765

Q.4 1921 में निम्नलिखित में से किस स्थान पर बेगार-विरोधी आंदोलन (anti-Begar movement) हुआ था?

- Ans
- 1. अल्मोड़ा
 - 2. बागेश्वर
 - 3. चमोली
 - 4. पौड़ी गढ़वाल

Question ID : 63068057279
Option 1 ID : 630680227964
Option 2 ID : 630680227965
Option 3 ID : 630680227966
Option 4 ID : 630680227963

Q.5 निम्नलिखित में से कौन-सा/सी भारतीय निशानेबाज, नवंबर 2025 में काहिरा में आयोजित ISSF विश्व चैंपियनशिप में ओलंपिक पिस्टल स्पर्धा में वरिष्ठ व्यक्तिगत विश्व खिताब जीतने वाला/वाली पहला/पहली भारतीय बना/बनी?

- Ans
- 1. सम्राट राणा
 - 2. वरुण तोमर
 - 3. मनु भाकर
 - 4. सौरभ चौधरी

Question ID : 4410091785587
Option 1 ID : 4410097041517
Option 2 ID : 4410097041515
Option 3 ID : 4410097041516
Option 4 ID : 4410097041518

Q.6 In 2025, India and NASA successfully launched the NISAR satellite. What is its key purpose?

- Ans
- 1. Military surveillance
 - 2. Climate and land/ice monitoring using radar imaging
 - 3. Navigation and GPS services
 - 4. To enhance telecommunication coverage

Question ID : 4410091748320
Option 1 ID : 4410096894722
Option 2 ID : 4410096894720
Option 3 ID : 4410096894721
Option 4 ID : 4410096894719

Q.7 खेलो इंडिया बीच गेम्स 2026 में, किस राज्य ने पदक तालिका में शीर्ष स्थान हासिल किया?

- Ans
- 1. कर्नाटक
 - 2. महाराष्ट्र
 - 3. केरल
 - 4. उत्तराखंड

Question ID : 4410091754818
Option 1 ID : 4410096920024
Option 2 ID : 4410096920025
Option 3 ID : 4410096920026
Option 4 ID : 4410096920027

Q.8 मार्च 2025 में, किन भारतीय दूरसंचार प्रदाताओं ने भारत में स्टारलिनक इंटरनेट सेवाओं को लाने के लिए स्पेसएक्स (SpaceX) के साथ समझौतों पर हस्ताक्षर किए थे?

- Ans
- 1. भारत संचार निगम लिमिटेड और महानगर टेलीफोन निगम लिमिटेड
 - 2. भारती एयरटेल और रिलायंस जिओ
 - 3. वोडाफोन आइडिया और टाटा नेटवर्क
 - 4. वोडाफोन आइडिया और महानगर टेलीफोन निगम लिमिटेड

Question ID : 441009689149
Option 1 ID : 4410092710624
Option 2 ID : 4410092710625
Option 3 ID : 4410092710622
Option 4 ID : 4410092710623

Q.9 जब अन्य सभी निविष्टियों को स्थिर रखा जाता है, तो निविष्टि में प्रति इकाई परिवर्तन के फलस्वरूप उत्पादन में होने वाले परिवर्तन को _____ कहा जाता है।

- Ans
- 1. सीमांत उत्पाद (Marginal product)
 - 2. इष्टतम उत्पाद (Optimal product)
 - 3. कुल उत्पाद (Total product)
 - 4. औसत उत्पाद (Average product)

Question ID : 441009652370
Option 1 ID : 4410092563750
Option 2 ID : 4410092563752
Option 3 ID : 4410092563751
Option 4 ID : 4410092563749

Q.10 निम्नलिखित व्यक्तियों में से कौन, काकोरी कांड में शामिल था?

- Ans
- 1. मोहम्मद अली
 - 2. अशफ़ाक़ उल्ला ख़ाँ
 - 3. शौकत अली
 - 4. मौलाना आज़ाद

Question ID : 44100930859
Option 1 ID : 441009122929
Option 2 ID : 441009122928
Option 3 ID : 441009122930
Option 4 ID : 441009122931

Q.11 किस वर्ष में ब्रिटिश अधिकारियों द्वारा खुदीराम बोस को फांसी दी गई थी, जिससे वे स्वतंत्रता संग्राम के सबसे कम उम्र के शहीदों में से एक बन गए?

- Ans
- 1. 1905
 - 2. 1908
 - 3. 1907
 - 4. 1910

Question ID : 4410091760078
Option 1 ID : 4410096940429
Option 2 ID : 4410096940431
Option 3 ID : 4410096940430
Option 4 ID : 4410096940432

Q.12 1916 में मद्रास में होम रूल लीग की शुरुआत किस नेता ने की थी?

- Ans
- 1. एनी बेसेंट
 - 2. भगत सिंह
 - 3. बाल गंगाधर तिलक
 - 4. सरदार वल्लभभाई पटेल

Question ID : 4410091732167
Option 1 ID : 4410096831002
Option 2 ID : 4410096831003
Option 3 ID : 4410096831001
Option 4 ID : 4410096831000

Q.13 BOXAM एलीट 2026 में, भारत के नौ स्वर्ण पदक जीतने में निम्नलिखित में से किस ओलंपिक पदक विजेता ने मुख्य भूमिका निभाई?

- Ans
- 1. निकहत ज़रीन
 - 2. लवलीना बोरगोहेन
 - 3. मैरी कॉम
 - 4. विजेंदर सिंह

Question ID : 4410091729690
Option 1 ID : 4410096821301
Option 2 ID : 4410096821298
Option 3 ID : 4410096821299
Option 4 ID : 4410096821300

Q.14 किसी समाज में एक निश्चित समयावधि के दौरान उपभोग के लिए उत्पादित सभी अंतिम वस्तुओं और सेवाओं के कुल मूल्य को क्या कहा जाता है?

- Ans
- 1. सकल राष्ट्रीय उत्पाद (GNP)
 - 2. मानव पूंजी (HC)
 - 3. सकल घरेलू उत्पाद (GDP)
 - 4. मानव विकास सूचकांक (HDI)

Question ID : 441009653131
Option 1 ID : 4410092566801
Option 2 ID : 4410092566802
Option 3 ID : 4410092566799
Option 4 ID : 4410092566800

Q.15 According to the Human Development Report published by the UNDP, which of the following is the most primary indicator used to measure the "health status" and longevity of people in a country?

- Ans
- 1. Life expectancy
 - 2. GDP per capita
 - 3. Industrial expansion
 - 4. Higher literacy rates

Question ID : 4410091730119
Option 1 ID : 4410096822868
Option 2 ID : 4410096822870
Option 3 ID : 4410096822871
Option 4 ID : 4410096822869

Q.16 Which of the following major technological missions was announced in the Union Budget 2026-27 with a dedicated allocation of ₹1,000 crore to deepen domestic chip manufacturing capabilities?

- Ans
- 1. Digital Bhashini 3.0
 - 2. Bharat 6G Framework
 - 3. Quantum Grid Mission
 - 4. Semiconductor Mission 2.0

Question ID : 4410091788926
Option 1 ID : 4410097054232
Option 2 ID : 4410097054230
Option 3 ID : 4410097054229
Option 4 ID : 4410097054231

Q.17 1857 के विद्रोह के दौरान, दिल्ली में विद्रोही सिपाहियों ने निम्नलिखित में से किस मुगल शासक को भारत का सम्राट घोषित किया था?

- Ans
- 1. मिर्जा जहांगीर
 - 2. अकबर II
 - 3. शाह आलम II
 - 4. बहादुर शाह ज़फर

Question ID : 4410091742545
Option 1 ID : 4410096871843
Option 2 ID : 4410096871841
Option 3 ID : 4410096871842
Option 4 ID : 4410096871844

Q.18 2 फरवरी 2026 को श्री दिवाकर जयंत ने नौसैनिक आयुध के महानिदेशक का पदभार ग्रहण किया। वह किस सेवा से संबंधित हैं?

- Ans
- 1. भारतीय नौसेना
 - 2. भारतीय वायु सेना
 - 3. भारतीय तटरक्षक बल
 - 4. भारतीय थल सेना

Question ID : 4410091782228
Option 1 ID : 4410097028170
Option 2 ID : 4410097028171
Option 3 ID : 4410097028173
Option 4 ID : 4410097028172

Q.19 व्यक्तिगत आय को व्यक्तिगत प्रयोज्य आय में परिवर्तित करते समय कौन-सा घटक घटाया जाता है?

- Ans
- 1. प्रत्यक्ष कर
 - 2. सब्सिडी
 - 3. प्रतिधारित आय
 - 4. निगमित लाभ

Question ID : 4410091755538
Option 1 ID : 4410096922892
Option 2 ID : 4410096922895
Option 3 ID : 4410096922894
Option 4 ID : 4410096922893

Q.20 लगभग पहली-दूसरी शताब्दी ईस्वी में रचित गाथासप्तसती (Gathasaptasati) को किस भारतीय भाषा परंपरा की सबसे प्राचीन ज्ञात साहित्यिक कृति माना जाता है?

- Ans
- 1. संस्कृत
 - 2. कन्नड़
 - 3. मराठी
 - 4. तमिल

Question ID : 441009892132
 Option 1 ID : 4410093522561
 Option 2 ID : 4410093522563
 Option 3 ID : 4410093522560
 Option 4 ID : 4410093522562

Section : General Awareness1

Q.1 निम्नलिखित में से कौन-सा एंजाइम, माल्टोस के ग्लूकोस में जल-अपघटन को उत्प्रेरित करता है?

- Ans
- 1. ऑक्सिडोरिडक्टैज (Oxidoreductase)
 - 2. प्रोटीएस (Protease)
 - 3. स्यूक्रेस (Sucrase)
 - 4. माल्टेस (Maltase)

Question ID : 4410091731520
 Option 1 ID : 4410096828450
 Option 2 ID : 4410096828451
 Option 3 ID : 4410096828448
 Option 4 ID : 4410096828449

Q.2 पारसी धर्म के संस्थापक पैगंबर ज़रथुष्ट्र की जयंती के स्मरण में पारसी समुदाय द्वारा कौन-सा त्योहार मनाया जाता है?

- Ans
- 1. खोर्दाद साल (Khordad Sal)
 - 2. असला (Asalah)
 - 3. पर्युषण (Paryushana)
 - 4. क्रिसमस (Christmas)

Question ID : 4410091769364
 Option 1 ID : 4410096977180
 Option 2 ID : 4410096977182
 Option 3 ID : 4410096977181
 Option 4 ID : 4410096977183

Q.3 निम्नलिखित में से कौन-सा परिदृश्य, सजीव कोशिका में समस्थापन (homeostasis) को सर्वोत्तम रूप से दर्शाता है?

- Ans
- 1. जलवायु के साथ आंतरिक तापमान में तेजी से बदलाव
 - 2. लवण सांद्रता को यादृच्छिक रूप से घटने-बढ़ने देना
 - 3. बाह्य परिवर्तनों के बावजूद आंतरिक pH को नियत बनाए रखना
 - 4. आंतरिक pH को बाह्य वातावरण से सुमेलित करना

Question ID : 4410091769978

Option 1 ID : 4410096979594

Option 2 ID : 4410096979595

Option 3 ID : 4410096979592

Option 4 ID : 4410096979593

Q.4 भारत के अपवाह (drainage) का लगभग कितना प्रतिशत भाग बंगाल की खाड़ी की ओर उन्मुख है?

- Ans
- 1. 50 प्रतिशत
 - 2. 23 प्रतिशत
 - 3. 77 प्रतिशत
 - 4. 95 प्रतिशत

Question ID : 4410091770237

Option 1 ID : 4410096980616

Option 2 ID : 4410096980615

Option 3 ID : 4410096980617

Option 4 ID : 4410096980618

Q.5 निम्नलिखित में से कौन-सा, प्रायद्वीपीय पठार में रिफ्ट घाटी का एक उदाहरण है?

- Ans
- 1. गंगा घाटी
 - 2. गोदावरी घाटी
 - 3. ब्रह्मपुत्र घाटी
 - 4. नर्मदा घाटी

Question ID : 4410091762381

Option 1 ID : 4410096949506

Option 2 ID : 4410096949508

Option 3 ID : 4410096949507

Option 4 ID : 4410096949505

Q.6 बौद्ध स्थापत्य अभिकल्प के संदर्भ में, मठ संकुलों और शैलकर्तित गुफा संरचनाओं के भीतर चैत्य कक्ष का प्राथमिक कार्यात्मक उद्देश्य क्या था?

- Ans
- 1. अध्ययन उद्देश्यों के लिए पवित्र ग्रंथों और पांडुलिपियों का संग्रहण
 - 2. मठ संकुल के भीतर भिक्षुओं के लिए आवास व्यवस्था
 - 3. प्रशासनिक गतिविधियों और मठ से संबंधित मामलों का प्रबंधन
 - 4. स्तूप के चारों ओर केंद्रित सामुदायिक पूजा और प्रार्थना

Question ID : 4410091769174

Option 1 ID : 4410096976442

Option 2 ID : 4410096976441

Option 3 ID : 4410096976443

Option 4 ID : 4410096976440

Q.7 अटल सुरंग भारत के किस राज्य में स्थित है?

- Ans
- 1. असम
 - 2. उत्तराखंड
 - 3. हिमाचल प्रदेश
 - 4. सिक्किम

Question ID : 441009399184

Option 1 ID : 4410091562193

Option 2 ID : 4410091562191

Option 3 ID : 4410091562192

Option 4 ID : 4410091562190

Q.8 श्रवणबेलगोला में स्थित भगवान बाहुबली, जिन्हें गोमेश्वर भी कहा जाता है, की विशालकाय प्रतिमा, जिसका निर्माण 10वीं शताब्दी ईस्वी में पश्चिमी गंग वंश के शासनकाल के दौरान करवाया गया था, वर्तमान में भारत के किस राज्य में स्थित है?

- Ans
- 1. कर्नाटक
 - 2. आंध्र प्रदेश
 - 3. महाराष्ट्र
 - 4. तमिलनाडु

Question ID : 4410091768896

Option 1 ID : 4410096975357

Option 2 ID : 4410096975359

Option 3 ID : 4410096975360

Option 4 ID : 4410096975358

Q.9 भारतीय संविधान में स्वतंत्रता का अधिकार किन अनुच्छेदों के अंतर्गत आता है?

- Ans
- 1. अनुच्छेद 12 से 14
 - 2. अनुच्छेद 19 से 22
 - 3. अनुच्छेद 23 से 24
 - 4. अनुच्छेद 29 से 30

Question ID : 441009869575
Option 1 ID : 4410093431337
Option 2 ID : 4410093431334
Option 3 ID : 4410093431335
Option 4 ID : 4410093431336

Q.10 भारतीय संविधान के निम्नलिखित में से किस अनुच्छेद के अंतर्गत अस्पृश्यता के उन्मूलन का प्रावधान है?

- Ans
- 1. अनुच्छेद 16
 - 2. अनुच्छेद 15
 - 3. अनुच्छेद 17
 - 4. अनुच्छेद 18

Question ID : 4410091775146
Option 1 ID : 4410097000024
Option 2 ID : 4410097000023
Option 3 ID : 4410097000025
Option 4 ID : 4410097000026

Q.11 भारतीय संविधान के अनुसार, कार्यकारी शक्तियों का प्रयोग करने के लिए राष्ट्रपति को किससे परामर्श करना चाहिए?

- Ans
- 1. स्पीकर की अध्यक्षता वाले संसद के निचले सदन से
 - 2. केवल राष्ट्रपति से
 - 3. प्रधानमंत्री की अध्यक्षता वाली मंत्रिपरिषद से
 - 4. केवल प्रधानमंत्री से

Question ID : 4410091721258
Option 1 ID : 4410096788273
Option 2 ID : 4410096788270
Option 3 ID : 4410096788272
Option 4 ID : 4410096788271

Q.12 भारत के निम्नलिखित में से किस राज्य में कृषि के आद्य रूप को 'दीपा (Dipa)' कहा जाता है?

- Ans
- 1. छत्तीसगढ़
 - 2. आंध्र प्रदेश
 - 3. ओडिशा
 - 4. मध्य प्रदेश

Question ID : 441009637037
Option 1 ID : 4410092502291
Option 2 ID : 4410092502294
Option 3 ID : 4410092502293
Option 4 ID : 4410092502292

Q.13 परंपरागत भारतीय मिठाइयों को तैयार करते समय, दूध को जमाने और ठोस पदार्थों को द्रव पदार्थों से अलग करने के लिए प्रायः कौन-सा यौगिक मिलाया जाता है?

- Ans
- 1. बेकिंग सोडा
 - 2. तेल
 - 3. नींबू का रस
 - 4. लवण

Question ID : 4410091729500
Option 1 ID : 4410096820538
Option 2 ID : 4410096820541
Option 3 ID : 4410096820540
Option 4 ID : 4410096820539

Q.14 भारत में सर्वोच्च न्यायिक प्राधिकरण कौन-सा है?

- Ans
- 1. भारत का सर्वोच्च न्यायालय
 - 2. उच्च न्यायालय
 - 3. जिला न्यायालय
 - 4. सत्र न्यायालय

Question ID : 441009287117
Option 1 ID : 4410091115422
Option 2 ID : 4410091115420
Option 3 ID : 4410091115421
Option 4 ID : 4410091115423

Q.15 सजीव कोशिकाओं में सर्वाधिक प्रचुर मात्रा में पाया जाने वाला अणु कौन-सा है?

- Ans
- 1. जल
 - 2. प्रोटीन
 - 3. कार्बोहाइड्रेट
 - 4. लिपिड

Question ID : 4410091764182
Option 1 ID : 4410096956664
Option 2 ID : 4410096956665
Option 3 ID : 4410096956667
Option 4 ID : 4410096956666

Q.16 निम्नलिखित में से किस भाषा को, 2013 में शास्त्रीय भाषा घोषित किया गया था?

- Ans
- 1. पंजाबी
 - 2. उड़िया
 - 3. असमिया
 - 4. मलयालम

Question ID : 4410091759514
Option 1 ID : 4410096938200
Option 2 ID : 4410096938201
Option 3 ID : 4410096938202
Option 4 ID : 4410096938203

Q.17 निम्नलिखित में से कौन-सा लिपिड घटक, जीवधारियों में कोशिका झिल्लियों की संरचना के लिए आवश्यक है?

- Ans
- 1. कोलेस्टेरॉल (Cholesterol)
 - 2. ट्राइग्लिसराइड (Triglycerides)
 - 3. फैटी एसिड (Fatty acids)
 - 4. फॉस्फोलिपिड (Phospholipids)

Question ID : 4410091746868

Option 1 ID : 4410096889012

Option 2 ID : 4410096889011

Option 3 ID : 4410096889013

Option 4 ID : 4410096889010

Q.18 भारतीय संविधान की कौन-सी अनुसूची, राज्यसभा में राज्यों और केंद्र शासित प्रदेशों के लिए सीटों के आवंटन से संबंधित है?

- Ans
- 1. दूसरी अनुसूची
 - 2. तीसरी अनुसूची
 - 3. पहली अनुसूची
 - 4. चौथी अनुसूची

Question ID : 441009635744

Option 1 ID : 4410092497124

Option 2 ID : 4410092497125

Option 3 ID : 4410092497123

Option 4 ID : 4410092497126

Q.19 आंध्र प्रदेश में कौन-सा स्थल एक ही स्थान पर संरचित स्तूपों, विहारों, और गुफाओं की खुदाई के लिए प्रसिद्ध है?

- Ans
- 1. अमरावती (Amaravati)
 - 2. भट्टीप्रोलू (Bhattiprolu)
 - 3. जगय्यापेटा (Jagayyapetta)
 - 4. गुंटुपल्ली (Guntupalli)

Question ID : 4410091739266

Option 1 ID : 4410096858639

Option 2 ID : 4410096858640

Option 3 ID : 4410096858641

Option 4 ID : 4410096858642

Q.20 स्वास्थ्य एवं परिवार कल्याण मंत्रालय के अंतर्गत राष्ट्रीय जनसंख्या आयोग द्वारा प्रकाशित रिपोर्ट 'भारत और राज्यों के लिए जनसंख्या अनुमान 2011-2036' के अनुसार, निम्नलिखित में से किस आयु वर्ग में 2036 तक सर्वाधिक वृद्धि होना अपेक्षित है?

- Ans 1. वरिष्ठ नागरिकों की जनसंख्या (60 वर्ष और उससे अधिक)
 2. बच्चे (0-4 वर्ष)
 3. स्कूल जाने वाली जनसंख्या (5-14 वर्ष)
 4. कार्यशील आयु जनसंख्या (15-59 वर्ष)

Question ID : 4410091754164
 Option 1 ID : 4410096917439
 Option 2 ID : 4410096917436
 Option 3 ID : 4410096917437
 Option 4 ID : 4410096917438

Section : Arithmetical and Numerical Ability

Q.1 एक प्रश्नोत्तरी में 5 विद्यार्थियों के अंक 40, 80, 50, 60 और 70 हैं। औसत अंक ज्ञात कीजिए।

- Ans 1. 65
 2. 72
 3. 60
 4. 52

Question ID : 4410091833319
 Option 1 ID : 4410097227258
 Option 2 ID : 4410097227257
 Option 3 ID : 4410097227256
 Option 4 ID : 4410097227259

Q.2 जब ब्याज का भुगतान क्रमशः अर्धवार्षिक और वार्षिक रूप से किया जाता है, तो ₹2,500 की राशि पर 12% वार्षिक दर से 1 वर्ष में अर्जित चक्रवृद्धि ब्याजों में कितना अंतर होगा?

- Ans 1. ₹35
 2. ₹9
 3. ₹26
 4. ₹15

Question ID : 441009834885
 Option 1 ID : 4410093292659
 Option 2 ID : 4410093292656
 Option 3 ID : 4410093292658
 Option 4 ID : 4410093292657

Q.3 9 संख्याओं का औसत 21 है। इनमें से आठ संख्याएं 12, 20, 15, 18, 20, 21, 25, और 15 हैं। नौवीं संख्या ज्ञात कीजिए।

- Ans
- 1. 28
 - 2. 33
 - 3. 53
 - 4. 43

Question ID : 4410091319010
Option 1 ID : 4410095207614
Option 2 ID : 4410095207613
Option 3 ID : 4410095207615
Option 4 ID : 4410095207612

Q.4 निम्नलिखित तालिका का अध्ययन कीजिए और इसके आधार पर प्रश्नों के उत्तर दीजिए। नीचे दी गई तालिका में एक शहर से दूसरे शहर में 1 kg पार्सल भेजने का कूरियर शुल्क (₹ में) दर्शाया गया है।

शहर	दिल्ली	कोलकाता	लखनऊ	चंडीगढ़	मुंबई
दिल्ली	•	60	50	40	90
कोलकाता	60	•	50	60	60
लखनऊ	50	50	•	50	55
चंडीगढ़	40	60	50	•	100
मुंबई	90	60	55	100	•

मुंबई से पार्सल भेजने हेतु सबसे कम शुल्क _____ के लिए होगा।

- Ans
- 1. चंडीगढ़
 - 2. कोलकाता
 - 3. लखनऊ
 - 4. दिल्ली

Question ID : 441009835198
Option 1 ID : 4410093293908
Option 2 ID : 4410093293911
Option 3 ID : 4410093293909
Option 4 ID : 4410093293910

Q.5 एक निर्माता एक उत्पाद थोक-विक्रेता को 25% के लाभ पर बेचता है। इसके बाद, थोक-विक्रेता उसे खुदरा-विक्रेता को 60% के लाभ पर बेचता है, और खुदरा-विक्रेता उसे ग्राहक को 32% के लाभ पर बेचता है। यदि ग्राहक ₹858 का भुगतान करता है, तो निर्माता का लागत मूल्य (₹ में) ज्ञात कीजिए।

- Ans 1. 325
 2. 324
 3. 326
 4. 322

Question ID : 441009125474
 Option 1 ID : 441009498739
 Option 2 ID : 441009498741
 Option 3 ID : 441009498742
 Option 4 ID : 441009498740

Q.6 $\frac{(8-4\sqrt{2})(8+4\sqrt{2})}{(7-3\sqrt{5})(7+3\sqrt{5})}$ का वर्गमूल ज्ञात कीजिए।

- Ans 1. $3\sqrt{2}$
 2. 2
 3. $\sqrt{2}$
 4. $2\sqrt{2}$

Question ID : 4410091003254
 Option 1 ID : 4410093964711
 Option 2 ID : 4410093964708
 Option 3 ID : 4410093964709
 Option 4 ID : 4410093964710

Q.7 किसी संख्या का 20%, 570 के 20% से 200 अधिक है। वह संख्या ज्ञात कीजिए।

- Ans 1. 1570
 2. 1420
 3. 1670
 4. 1620

Question ID : 441009855788
 Option 1 ID : 4410093376124
 Option 2 ID : 4410093376125
 Option 3 ID : 4410093376127
 Option 4 ID : 4410093376126

Q.8 एक दुकान में दो प्रकार के फल हैं, जिनमें ₹30 प्रति पीस की दर सेब तथा ₹50 प्रति पीस की दर से संतरे मिलते हैं। यदि कोई ग्राहक 4 सेब और 6 संतरे खरीदता है, तो प्रति फल भारत औसत लागत कितनी होगी?

- Ans
- 1. ₹40
 - 2. ₹42
 - 3. ₹46
 - 4. ₹44

Question ID : 4410091833335
 Option 1 ID : 4410097227316
 Option 2 ID : 4410097227317
 Option 3 ID : 4410097227319
 Option 4 ID : 4410097227318

Q.9 यदि $x > 0$ है और $\sqrt{x} = (7)^{15}$ है, तो x का मान ज्ञात कीजिए।

- Ans
- 1. 7^{30}
 - 2. $\sqrt{(7)^{30}}$
 - 3. 7^{15}
 - 4. 7

Question ID : 4410091107776
 Option 1 ID : 4410094368101
 Option 2 ID : 4410094368099
 Option 3 ID : 4410094368100
 Option 4 ID : 4410094368098

Q.10 एक कंपनी का राजस्व एक वर्ष में ₹20 लाख से घटकर ₹18 लाख हो जाता है। राजस्व में प्रतिशत कमी ज्ञात कीजिए।

- Ans
- 1. 5%
 - 2. 12%
 - 3. 10%
 - 4. 2%

Question ID : 441009833321
 Option 1 ID : 4410093286401
 Option 2 ID : 4410093286403
 Option 3 ID : 4410093286400
 Option 4 ID : 4410093286402

Q.11 एक मोबाइल की कीमत ₹27,000 से बढ़कर ₹31,700 हो गई। कीमत में प्रतिशत वृद्धि ज्ञात कीजिए (दो दशमलव स्थानों तक पूर्णांकित)।

- Ans
- 1. 17.07%
 - 2. 17.78%
 - 3. 17.93%
 - 4. 17.41%

Question ID : 441009833256
Option 1 ID : 4410093286142
Option 2 ID : 4410093286140
Option 3 ID : 4410093286143
Option 4 ID : 4410093286141

Q.12 13 संख्याओं का औसत 21 है। यदि प्रत्येक संख्या को 7 से गुणा किया जाए, तो नया औसत कितना होगा?

- Ans
- 1. 21
 - 2. 7
 - 3. 13
 - 4. 147

Question ID : 441009986429
Option 1 ID : 4410093898006
Option 2 ID : 4410093898007
Option 3 ID : 4410093898008
Option 4 ID : 4410093898005

Q.13 किरण को पहले वर्ष में बिक्री में 12% और दूसरे वर्ष में 25% की वृद्धि देखने को मिलती है। यदि वर्तमान बिक्री ₹1,31,600 है, तो दो वर्ष पूर्व बिक्री (₹ में) कितनी थी?

- Ans
- 1. 74,000
 - 2. 1,05,280
 - 3. 94,000
 - 4. 1,17,500

Question ID : 441009859385
Option 1 ID : 4410093390515
Option 2 ID : 4410093390513
Option 3 ID : 4410093390512
Option 4 ID : 4410093390514

Q.14 दो संख्याओं के HCF और LCM का गुणनफल 576 है। यदि पहली संख्या 72 है, तो दूसरी संख्या ज्ञात कीजिए।

- Ans 1. 8
 2. 32
 3. 24
 4. 16

Question ID : 441009928785
Option 1 ID : 4410093669113
Option 2 ID : 4410093669116
Option 3 ID : 4410093669115
Option 4 ID : 4410093669114

Q.15 दो संख्याओं का गुणनफल 1500 है और उनका महत्तम समापवर्तक (HCF) 10 है, तो ऐसे संभावित युग्मों की संख्या कितनी है?

- Ans 1. 4
 2. 3
 3. 2
 4. 1

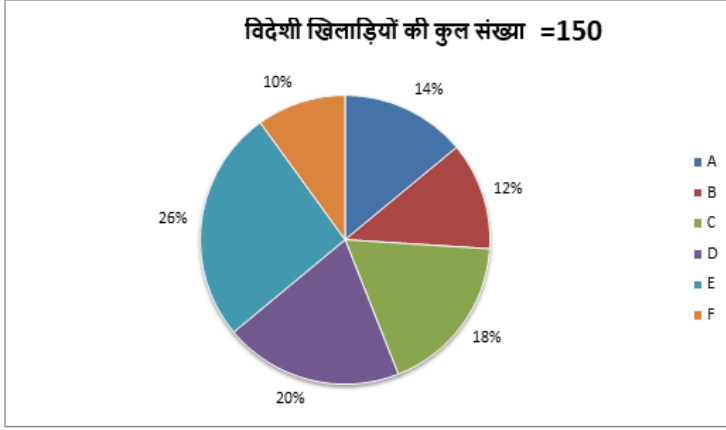
Question ID : 441009846052
Option 1 ID : 4410093337168
Option 2 ID : 4410093337167
Option 3 ID : 4410093337165
Option 4 ID : 4410093337166

Q.16 ₹1,500 पर 5% मासिक दर से 12 महीनों का साधारण ब्याज (₹ में) ज्ञात कीजिए।

- Ans 1. 112.50
 2. 900
 3. 150
 4. 75

Question ID : 441009570570
Option 1 ID : 4410092237401
Option 2 ID : 4410092237403
Option 3 ID : 4410092237402
Option 4 ID : 4410092237400

Q.17 नीचे दिए गए पाई चार्ट में एक क्रिकेट लीग की विभिन्न टीमों में विदेशी खिलाड़ियों का प्रतिशत दर्शाया गया है। पाई चार्ट का ध्यानपूर्वक अध्ययन कीजिए और दिए गए प्रश्न का उत्तर दीजिए।



टीम E में विदेशी खिलाड़ियों की संख्या ज्ञात कीजिए।

- Ans
- 1. 36
 - 2. 39
 - 3. 31
 - 4. 34

Question ID : 441009249745
 Option 1 ID : 441009972974
 Option 2 ID : 441009972975
 Option 3 ID : 441009972972
 Option 4 ID : 441009972973

Q.18 एक व्यक्ति को एक वस्तु ₹120 में बेचने पर 20% की हानि होती है। उसे 24% का लाभ प्राप्त करने के लिए वस्तु को किस मूल्य (₹ में) पर बेचना चाहिए?

- Ans
- 1. 176
 - 2. 206
 - 3. 196
 - 4. 186

Question ID : 441009575280
 Option 1 ID : 4410092256242
 Option 2 ID : 4410092256243
 Option 3 ID : 4410092256241
 Option 4 ID : 4410092256240

Q.19 वार्षिक रूप से चक्रवृद्धि होने वाली 10% वार्षिक दर से ₹23,000 की धनराशि 3 वर्षों के लिए निवेश की जाती है। चक्रवृद्धि ब्याज ज्ञात कीजिए।

- Ans
- 1. ₹7,250
 - 2. ₹7,173
 - 3. ₹7,480
 - 4. ₹7,613

Question ID : 4410091777258
Option 1 ID : 4410097008272
Option 2 ID : 4410097008271
Option 3 ID : 4410097008273
Option 4 ID : 4410097008270

Q.20 ₹5100 की धनराशि चक्रवृद्धि ब्याज पर 4% वार्षिक ब्याज दर से 2 वर्ष के लिए उधार दी जाती है, जिस पर ब्याज वार्षिक रूप से संयोजित होता है। दो वर्ष बाद प्राप्त मिश्रधन (₹ में) ज्ञात कीजिए।

- Ans
- 1. 5556.56
 - 2. 5505.05
 - 3. 5616.16
 - 4. 5516.16

Question ID : 441009835314
Option 1 ID : 4410093294375
Option 2 ID : 4410093294373
Option 3 ID : 4410093294372
Option 4 ID : 4410093294374

Section : Arithmetical and Numerical Ability1

Q.1 एक गोले का पृष्ठीय क्षेत्रफल 616 cm^2 है। इसकी त्रिज्या कितनी है? ($\pi = 22/7$ का उपयोग कीजिए)

- Ans
- 1. 3.5 cm
 - 2. 5 cm
 - 3. 7.5 cm
 - 4. 7 cm

Question ID : 4410091742598
Option 1 ID : 4410096872049
Option 2 ID : 4410096872050
Option 3 ID : 4410096872052
Option 4 ID : 4410096872051

Q.2 दो पाइप A और B मिलकर एक टंकी को 4 घंटे में भर सकते हैं। यदि उन्हें अलग-अलग खोला जाता है, तो B को टंकी को भरने में A से 6 घंटे अधिक समय लगता है। ऐसी दो टंकियों को अलग-अलग भरने में B को कितना समय लगेगा?

- Ans
- 1. 12 घंटे
 - 2. 16 घंटे
 - 3. 24 घंटे
 - 4. 18 घंटे

Question ID : 441009376009
 Option 1 ID : 4410091469582
 Option 2 ID : 4410091469585
 Option 3 ID : 4410091469583
 Option 4 ID : 4410091469584

Q.3 माया को ₹5000 अंकित मूल्य वाले एक ग्राइंडर पर 37% की छूट प्राप्त होती है। क्रेडिट कार्ड से भुगतान करने पर उसे छूट के बाद प्राप्त मूल्य 6% की अन्य छूट मिलती है। वह कितना (₹ में) भुगतान करती है?

- Ans
- 1. 2961
 - 2. 2958
 - 3. 2964
 - 4. 2959

Question ID : 441009895094
 Option 1 ID : 4410093534446
 Option 2 ID : 4410093534447
 Option 3 ID : 4410093534449
 Option 4 ID : 4410093534448

Q.4 यदि 8 और $2x$ के बीच का माध्यानुपाती x है, तो x का धनात्मक मान ज्ञात कीजिए।

- Ans
- 1. 16
 - 2. 12
 - 3. 8
 - 4. 32

Question ID : 4410091739343
 Option 1 ID : 4410096858945
 Option 2 ID : 4410096858944
 Option 3 ID : 4410096858943
 Option 4 ID : 4410096858946

Q.5 एक दुकानदार को, एक मोबाइल ₹17,160 में बेचने पर 4% का लाभ प्राप्त होता है और दूसरा मोबाइल ₹17,280 में बेचने पर 4% की हानि होती है। दुकानदार को कुल कितने प्रतिशत का लाभ या हानि हुई?

- Ans
- 1. $\frac{6}{34}$ % हानि
 - 2. $\frac{4}{23}$ % हानि
 - 3. 0% लाभ
 - 4. $\frac{8}{13}$ % लाभ

Question ID : 441009834468
 Option 1 ID : 4410093290989
 Option 2 ID : 4410093290988
 Option 3 ID : 4410093290990
 Option 4 ID : 4410093290991

Q.6 एक गोलाकार गुब्बारे की त्रिज्या 38.5 cm है। इसका आयतन ज्ञात कीजिए। ($\pi = 22/7$ का उपयोग कीजिए) (अपने उत्तर को दशमलव के दो स्थानों तक पूर्णांकित करें)

- Ans
- 1. 239146.34 cm³
 - 2. 239136.33 cm³
 - 3. 239166.34 cm³
 - 4. 239116.34 cm³

Question ID : 4410091748875
 Option 1 ID : 4410096896928
 Option 2 ID : 4410096896927
 Option 3 ID : 4410096896930
 Option 4 ID : 4410096896929

Q.7 एक वस्तु ₹6,600 में खरीदी गई। इसका अंकित मूल्य 12% बढ़ाकर निर्धारित किया गया। इसके बाद, अंकित मूल्य पर 5% की छूट देकर इसे बेचा गया। इस लेन-देन में लाभ प्रतिशत ज्ञात कीजिए।

- Ans
- 1. 6.4%
 - 2. 5.8%
 - 3. 4.6%
 - 4. 3.8%

Question ID : 441009835038
 Option 1 ID : 4410093293269
 Option 2 ID : 4410093293268
 Option 3 ID : 4410093293271
 Option 4 ID : 4410093293270

Q.8 यदि x, y के व्युत्क्रमानुपाती है और $x = 9$ होने पर $y = 8$ है, तो $y = 24$ होने पर x का मान ज्ञात कीजिए।

- Ans 1. 3
 2. 5
 3. 4
 4. 2

Question ID : 441009835010
 Option 1 ID : 4410093293157
 Option 2 ID : 4410093293159
 Option 3 ID : 4410093293158
 Option 4 ID : 4410093293156

Q.9 एक वर्ग और एक आयत का परिमाण समान है। वर्ग की भुजा, आयत की चौड़ाई से 4 m अधिक है। आयत की लंबाई, उसकी चौड़ाई से 8 m अधिक है। यदि वर्ग का क्षेत्रफल 841m^2 है, तो वर्ग और आयत के क्षेत्रफल के बीच का अंतर ज्ञात कीजिए।

- Ans 1. 16 m²
 2. 18 m²
 3. 14 m²
 4. 12 m²

Question ID : 4410091774718
 Option 1 ID : 4410096998395
 Option 2 ID : 4410096998396
 Option 3 ID : 4410096998394
 Option 4 ID : 4410096998393

Q.10 पाइप M, पूरी टंकी को 24 मिनट में भर सकता है, जबकि पाइप N इसे 15 मिनट में खाली कर सकता है। यदि दोनों पाइप एक साथ खोले जाते हैं, तो प्रारंभ में टंकी का एक-आठवां भाग भरे होने पर टंकी को पूर्णतः भरने या खाली करने में कितना समय लगेगा?

- Ans 1. 5 मिनट में खाली होगी
 2. 8 मिनट में खाली होगी
 3. 5 मिनट में भरेगी
 4. 8 मिनट में भरेगी

Question ID : 441009836253
 Option 1 ID : 4410093298131
 Option 2 ID : 4410093298129
 Option 3 ID : 4410093298130
 Option 4 ID : 4410093298128

Q.11 एक इलेक्ट्रिक डिलीवरी वैन 135 km की दूरी 45 km/h की चाल से तय करती है और फिर सड़क पर भीड़भाड़ के कारण, अगली 72 km की दूरी 24 km/h की चाल से तय करती है। इस यात्रा में कुल कितना समय लगा?

- Ans 1. 7 घंटे
 2. 6 घंटे
 3. 5 घंटे
 4. 4 घंटे

Question ID : 4410091809025
 Option 1 ID : 4410097132392
 Option 2 ID : 4410097132391
 Option 3 ID : 4410097132390
 Option 4 ID : 4410097132389

Q.12 ₹3,080 को तीन भागों में इस प्रकार विभाजित किया जाता है कि पहले भाग का आधा, दूसरे भाग का एक-चौथाई और तीसरे भाग का एक-आठवाँ भाग बराबर है। पहले भाग का मूल्य (₹ में) ज्ञात कीजिए।

- Ans 1. 440
 2. 740
 3. 540
 4. 240

Question ID : 441009833515
 Option 1 ID : 4410093287176
 Option 2 ID : 4410093287177
 Option 3 ID : 4410093287178
 Option 4 ID : 4410093287179

Q.13 एक ट्रेन एक प्लेटफॉर्म को 12 सेकंड में और प्लेटफॉर्म पर खड़े एक व्यक्ति को 4 सेकंड में पार करती है। यदि ट्रेन की लंबाई 100 मीटर है, तो प्लेटफॉर्म की लंबाई (मीटर में) ज्ञात कीजिए।

- Ans 1. 220
 2. 200
 3. 180
 4. 240

Question ID : 441009834001
 Option 1 ID : 4410093289120
 Option 2 ID : 4410093289121
 Option 3 ID : 4410093289123
 Option 4 ID : 4410093289122

Q.14 एक पाइप एक टंकी को 7 घंटे में भर सकता है। यदि टंकी पहले से ही आधी भरी हुई है, तो शेष भाग को भरने में पाइप को कितना समय लगेगा?

- Ans
- 1. 4.5 घंटे
 - 2. 3.5 घंटे
 - 3. 2.5 घंटे
 - 4. 5.5 घंटे

Question ID : 4410091833473
Option 1 ID : 4410097227840
Option 2 ID : 4410097227841
Option 3 ID : 4410097227842
Option 4 ID : 4410097227843

Q.15 यदि P और 72 का माध्यानुपाती 36 है, तो P का मान ज्ञात कीजिए।

- Ans
- 1. 18
 - 2. 19
 - 3. 22
 - 4. 16

Question ID : 441009835410
Option 1 ID : 4410093294756
Option 2 ID : 4410093294758
Option 3 ID : 4410093294759
Option 4 ID : 4410093294757

Q.16 अनिल अपने होमटाउन 30 km/hr की चाल से जाता है और 60 km/hr की चाल से वापस लौटता है। यदि उसे कुल 23 घंटे लगते हैं, तो संपूर्ण यात्रा के लिए उसकी औसत चाल (km/hr में) कितनी है?

- Ans
- 1. 40
 - 2. 38
 - 3. 46
 - 4. 42

Question ID : 441009834013
Option 1 ID : 4410093289171
Option 2 ID : 4410093289168
Option 3 ID : 4410093289170
Option 4 ID : 4410093289169

Q.17 90 km प्रति घंटे की चाल से चल रही एक ट्रेन, अपनी लंबाई से दोगुनी लंबाई वाले एक प्लेटफॉर्म को 18 सेकंड में पार करती है। प्लेटफॉर्म की लंबाई मीटर में कितनी है?

- Ans
- 1. 285
 - 2. 340
 - 3. 250
 - 4. 300

Question ID : 441009834938
Option 1 ID : 4410093292870
Option 2 ID : 4410093292869
Option 3 ID : 4410093292868
Option 4 ID : 4410093292871

Q.18 $10\sqrt{13}$ cm व्यास वाले एक गोले का संपूर्ण पृष्ठीय क्षेत्रफल ज्ञात कीजिए। ($\pi = 22/7$ का उपयोग करें) (उत्तर को दो दशमलव स्थानों तक पूर्णांकित करें)

- Ans
- 1. 4085.71 cm²
 - 2. 4095.93 cm²
 - 3. 4065.47 cm²
 - 4. 4075.54 cm²

Question ID : 4410091775259
Option 1 ID : 4410097000477
Option 2 ID : 4410097000478
Option 3 ID : 4410097000475
Option 4 ID : 4410097000476

Q.19 A और B मिलकर एक कार्य को 12 दिनों में पूरा कर सकते हैं। B और C मिलकर उसे 15 दिनों में तथा C और A मिलकर उसे 20 दिनों में पूरा कर सकते हैं। यदि तीनों मिलकर काम करें, तो उन्हें कुल कितने दिन लगेंगे?

- Ans
- 1. 8 दिन
 - 2. 12 दिन
 - 3. 10 दिन
 - 4. 15 दिन

Question ID : 4410091835827
Option 1 ID : 4410097237026
Option 2 ID : 4410097237028
Option 3 ID : 4410097237027
Option 4 ID : 4410097237029

Q.20 किसी उत्पाद का अंकित मूल्य ₹2,550 है। यदि इसे 20% की छूट पर बेचा जाता है और फिर भी व्यापारी को 25% का लाभ प्राप्त होता है, तो क्रय मूल्य ज्ञात कीजिए।

- Ans
- 1. ₹1,789
 - 2. ₹1,882
 - 3. ₹1,632
 - 4. ₹1,972

Question ID : 441009835039
 Option 1 ID : 4410093293274
 Option 2 ID : 4410093293275
 Option 3 ID : 4410093293272
 Option 4 ID : 4410093293273

Section : Test of English Language and Comprehension

Q.1 Select the most appropriate option to fill in the blank.

It is impossible to remember every _____ detail.482

- Ans
- 1. little
 - 2. few
 - 3. junior
 - 4. several

Question ID : 441009824450
 Option 1 ID : 4410093251888
 Option 2 ID : 4410093251890
 Option 3 ID : 4410093251889
 Option 4 ID : 4410093251887

Q.2 Select the option that rectifies the underlined part of the given sentence. If no rectification is needed, select 'No rectification required'.

This is the more beautiful painting in the gallery.

- Ans
- 1. No rectification required
 - 2. many
 - 3. most
 - 4. much

Question ID : 441009349016
 Option 1 ID : 4410091362470
 Option 2 ID : 4410091362472
 Option 3 ID : 4410091362471
 Option 4 ID : 4410091362473

Q.3 A sentence is divided into the following different segments. Rearrange all the segments to form a coherent sentence.

two thousand (O) / more than (P) / there are (Q) / in our town (R) / homeless living (S)

- Ans
- 1. QPROS
 - 2. OPQRS
 - 3. SORPQ
 - 4. QPOSR

Question ID : 4410091010683

Option 1 ID : 4410093994388

Option 2 ID : 4410093994387

Option 3 ID : 4410093994390

Option 4 ID : 4410093994389

Q.4 Fill in the blank with a suitable article from the given alternatives.

Jenny's father is ___ Italian.2088

- Ans
- 1. the
 - 2. a
 - 3. an
 - 4. No article

Question ID : 4410091010021

Option 1 ID : 4410093991717

Option 2 ID : 4410093991718

Option 3 ID : 4410093991719

Option 4 ID : 4410093991720

Q.5 The given sentence has an error. Select the option that rectifies the sentence.

The conference will be held on the downtown hotel.859

- Ans
- 1. The conference will be held around the downtown hotel.
 - 2. The conference will be held by the downtown hotel.
 - 3. The conference will be held of the downtown hotel.
 - 4. The conference will be held at the downtown hotel.

Question ID : 4410091008792

Option 1 ID : 4410093986803

Option 2 ID : 4410093986802

Option 3 ID : 4410093986804

Option 4 ID : 4410093986801

Q.6 In the given questions, a statement divided into different segments is given. Rearrange all the segments to form a coherent statement.

- P. no longer able to change
Q. to change ourselves
R. when we are
S. a situation, we are challenged

6060

- Ans 1. RPSQ
 2. SRQP
 3. RQSP
 4. SRPQ

Question ID : 441009433716
Option 1 ID : 4410091694382
Option 2 ID : 4410091694385
Option 3 ID : 4410091694383
Option 4 ID : 4410091694384

Q.7 Select the most appropriate option to fill in the blanks.

She is ___ MP of this constituency and also ___ strong advocate for women's rights.

- Ans 1. an, a
 2. a, no article needed
 3. the, the
 4. a, an

Question ID : 4410091009769
Option 1 ID : 4410093990711
Option 2 ID : 4410093990712
Option 3 ID : 4410093990710
Option 4 ID : 4410093990709

Q.8 Choose the word that best completes the sentence.

The officer _____ leave to his secretary.1017

- Ans 1. granted
 2. awarded
 3. allowed
 4. offered

Question ID : 4410091008950
Option 1 ID : 4410093987434
Option 2 ID : 4410093987436
Option 3 ID : 4410093987435
Option 4 ID : 4410093987433

Q.9 Select the correct option to fill in the blank.
I like walking and like cycling _____.

- Ans
- 1. to
 - 2. too
 - 3. two
 - 4. for

Question ID : 44100934339
Option 1 ID : 441009136774
Option 2 ID : 441009136775
Option 3 ID : 441009136777
Option 4 ID : 441009136776

Q.10 Select the most appropriate option to fill in the blank.

My mother enjoys watching _____ ballet.

- Ans
- 1. an
 - 2. a
 - 3. No article required
 - 4. the

Question ID : 441009349116
Option 1 ID : 4410091362871
Option 2 ID : 4410091362870
Option 3 ID : 4410091362873
Option 4 ID : 4410091362872

Q.11 Select the most appropriate option to rectify the error in the underlined part of the given sentence.

I was mourning the loss of my dog till my death.

- Ans
- 1. am mournful
 - 2. will mourn
 - 3. am mourn
 - 4. have mourned

Question ID : 44100932593
Option 1 ID : 441009129602
Option 2 ID : 441009129603
Option 3 ID : 441009129601
Option 4 ID : 441009129604

Q.12 The given sentence has an error. Select the option that rectifies the sentence.

The scientist meticulously averaged the new experimental data⁷⁹¹

- Ans
- 1. The scientist meticulously ignored the new experimental data.
 - 2. The scientist meticulously confused the new experimental data.
 - 3. The scientist meticulously discarded the new experimental data.
 - 4. The scientist meticulously analyzed the new experimental data.

Question ID : 4410091008724
Option 1 ID : 4410093986530
Option 2 ID : 4410093986532
Option 3 ID : 4410093986529
Option 4 ID : 4410093986531

Q.13 Which of the following adjectives is appropriate to complete the following sentence?
The _____ speech of the Chief guest made everyone in the hall feel bored and irritated.

1742

- Ans
- 1. lengthy
 - 2. powerful
 - 3. motivational
 - 4. boisterous

Question ID : 4410091009675
Option 1 ID : 4410093990333
Option 2 ID : 4410093990334
Option 3 ID : 4410093990335
Option 4 ID : 4410093990336

Q.14 Select the option that rectifies the underlined part of the given sentence.

She is the more intelligent student in the class.

- Ans
- 1. much intelligent
 - 2. many intelligent
 - 3. most intelligent
 - 4. more intelligent

Question ID : 441009349015
Option 1 ID : 4410091362469
Option 2 ID : 4410091362468
Option 3 ID : 4410091362467
Option 4 ID : 4410091362466

Q.15 Select the most appropriate article to fill in the blank. If no article is needed, select 'No article required'.
The conference was attended by ____ wide array of experts in environmental science.

- Ans 1. a
 2. the
 3. no article required
 4. an

Question ID : 4410091009865
Option 1 ID : 4410093991094
Option 2 ID : 4410093991095
Option 3 ID : 4410093991096
Option 4 ID : 4410093991093

Comprehension:

Read the following passage and answer the questions given below-
At eight years old, Leela dreamed of flying. Her village lacked electricity, let alone a computer or aviation school. Yet she watched planes soar above the fields and folded paper into wings. Her father, a school janitor, brought her discarded science books. She read about thrust and lift by candlelight. One day, she wrote a letter to the Indian Air Force, asking how she could become a pilot. Months later, a reply came—simple, encouraging, and signed by a female officer. Inspired, Leela studied relentlessly, often waking before dawn. Years later, she stood on a runway, her name stitched on a real uniform. She wasn't just a pilot—she was the first from her village. Today, she visits rural schools, urging children to believe beyond boundaries. Her message: "Your dreams need wings, not wealth." Leela's story is not about flight alone—it's about rising above limits, one paper wing, one hope, and one brave letter at a time.

SubQuestion No : 16

Q.16 What is the theme of the passage?

- Ans 1. Paper folding techniques
 2. Education system reform
 3. Life in the Air Force
 4. Overcoming poverty through willpower

Question ID : 441009978839
Option 1 ID : 4410093868004
Option 2 ID : 4410093868001
Option 3 ID : 4410093868003
Option 4 ID : 4410093868002

Comprehension:

Read the following passage and answer the questions given below-
At eight years old, Leela dreamed of flying. Her village lacked electricity, let alone a computer or aviation school. Yet she watched planes soar above the fields and folded paper into wings. Her father, a school janitor, brought her discarded science books. She read about thrust and lift by candlelight. One day, she wrote a letter to the Indian Air Force, asking how she could become a pilot. Months later, a reply came—simple, encouraging, and signed by a female officer. Inspired, Leela studied relentlessly, often waking before dawn. Years later, she stood on a runway, her name stitched on a real uniform. She wasn't just a pilot—she was the first from her village. Today, she visits rural schools, urging children to believe beyond boundaries. Her message: "Your dreams need wings, not wealth." Leela's story is not about flight alone—it's about rising above limits, one paper wing, one hope, and one brave letter at a time.

SubQuestion No : 17**Q.17 What role did the letter from the Air Force play?**

- Ans
- 1. Provided scholarship
 - 2. Gave study material
 - 3. Gave encouragement
 - 4. Rejected her request

Question ID : 441009978840

Option 1 ID : 4410093868005

Option 2 ID : 4410093868008

Option 3 ID : 4410093868007

Option 4 ID : 4410093868006

Comprehension:

Read the following passage and answer the questions given below-
At eight years old, Leela dreamed of flying. Her village lacked electricity, let alone a computer or aviation school. Yet she watched planes soar above the fields and folded paper into wings. Her father, a school janitor, brought her discarded science books. She read about thrust and lift by candlelight. One day, she wrote a letter to the Indian Air Force, asking how she could become a pilot. Months later, a reply came—simple, encouraging, and signed by a female officer. Inspired, Leela studied relentlessly, often waking before dawn. Years later, she stood on a runway, her name stitched on a real uniform. She wasn't just a pilot—she was the first from her village. Today, she visits rural schools, urging children to believe beyond boundaries. Her message: "Your dreams need wings, not wealth." Leela's story is not about flight alone—it's about rising above limits, one paper wing, one hope, and one brave letter at a time.

SubQuestion No : 18**Q.18 How did Leela learn aviation basics?**

- Ans
- 1. From a village pilot
 - 2. Reading science books
 - 3. Through formal training
 - 4. Watching movies

Question ID : 441009978841

Option 1 ID : 4410093868009

Option 2 ID : 4410093868012

Option 3 ID : 4410093868010

Option 4 ID : 4410093868011

Comprehension:

Read the following passage and answer the questions given below-
At eight years old, Leela dreamed of flying. Her village lacked electricity, let alone a computer or aviation school. Yet she watched planes soar above the fields and folded paper into wings. Her father, a school janitor, brought her discarded science books. She read about thrust and lift by candlelight. One day, she wrote a letter to the Indian Air Force, asking how she could become a pilot. Months later, a reply came—simple, encouraging, and signed by a female officer. Inspired, Leela studied relentlessly, often waking before dawn. Years later, she stood on a runway, her name stitched on a real uniform. She wasn't just a pilot—she was the first from her village. Today, she visits rural schools, urging children to believe beyond boundaries. Her message: "Your dreams need wings, not wealth." Leela's story is not about flight alone—it's about rising above limits, one paper wing, one hope, and one brave letter at a time.

SubQuestion No : 19**Q.19** What does "paper wings" metaphorically imply?

- Ans
- 1. Origami skills
 - 2. Fragile dreams taking flight
 - 3. Childhood creativity
 - 4. Military symbols

Question ID : 441009978842

Option 1 ID : 4410093868013

Option 2 ID : 4410093868015

Option 3 ID : 4410093868014

Option 4 ID : 4410093868016

Comprehension:

Read the following passage and answer the questions given below-
At eight years old, Leela dreamed of flying. Her village lacked electricity, let alone a computer or aviation school. Yet she watched planes soar above the fields and folded paper into wings. Her father, a school janitor, brought her discarded science books. She read about thrust and lift by candlelight. One day, she wrote a letter to the Indian Air Force, asking how she could become a pilot. Months later, a reply came—simple, encouraging, and signed by a female officer. Inspired, Leela studied relentlessly, often waking before dawn. Years later, she stood on a runway, her name stitched on a real uniform. She wasn't just a pilot—she was the first from her village. Today, she visits rural schools, urging children to believe beyond boundaries. Her message: "Your dreams need wings, not wealth." Leela's story is not about flight alone—it's about rising above limits, one paper wing, one hope, and one brave letter at a time.

SubQuestion No : 20**Q.20** What marked her success later?

- Ans
- 1. Becoming a teacher
 - 2. Wearing a pilot uniform
 - 3. Working in an airport
 - 4. Owning a private jet

Question ID : 441009978843

Option 1 ID : 4410093868017

Option 2 ID : 4410093868019

Option 3 ID : 4410093868018

Option 4 ID : 4410093868020

Q.1 Choose the correct meaning of the proverb from the given options.

A picture is worth a thousand words.

- Ans
- 1. Beauty is subjective.
 - 2. Visuals can communicate more effectively than words.
 - 3. We believe what we read.
 - 4. Words are powerful.

Question ID : 4410091012765
Option 1 ID : 4410094002726
Option 2 ID : 4410094002725
Option 3 ID : 4410094002724
Option 4 ID : 4410094002723

Q.2 Select the most appropriate synonym of the given word.

Emphatic

- Ans
- 1. Hesitant
 - 2. Weak
 - 3. Subtle
 - 4. Forceful

Question ID : 441009411307
Option 1 ID : 4410091610620
Option 2 ID : 4410091610619
Option 3 ID : 4410091610621
Option 4 ID : 4410091610618

Q.3 Choose the correct one-word substitution for the given highlighted phrase from the options below.

The security guard warned people who enter someone's property without permission to leave immediately.

- Ans
- 1. trespassers
 - 2. squatters
 - 3. settlers
 - 4. immigrants

Question ID : 4410091780913
Option 1 ID : 4410097023000
Option 2 ID : 4410097022999
Option 3 ID : 4410097023001
Option 4 ID : 4410097022998

Q.4 Read the following proverb carefully and choose the option that best describes the meaning of the proverb.
Look before you leap.

- Ans
- 1. Consider the consequences before taking any action.
 - 2. Hasty decisions are the best decisions.
 - 3. Act without thinking.
 - 4. Always take up new opportunities.

Question ID : 4410091012293
Option 1 ID : 4410094000837
Option 2 ID : 4410094000838
Option 3 ID : 4410094000836
Option 4 ID : 4410094000835

Q.5 Select the wrongly spelt word.

- Ans
- 1. Aberration
 - 2. Mellifluous
 - 3. Belligerent
 - 4. Quintessential

Question ID : 441009349941
Option 1 ID : 4410091366029
Option 2 ID : 4410091366027
Option 3 ID : 4410091366028
Option 4 ID : 4410091366026

Q.6 Choose the correct one word substitute for the highlighted text in the given sentence.

Shama, while joining college, was a 'person who is new to a subject or activity'.
She sought guidance from her seniors.

- Ans
- 1. mentor
 - 2. prodigy
 - 3. novice
 - 4. veteran

Question ID : 4410091790880
Option 1 ID : 4410097061780
Option 2 ID : 4410097061783
Option 3 ID : 4410097061782
Option 4 ID : 4410097061781

Q.7 Choose the correct synonym of the word given.

"Perplexed"

- Ans 1. Confused
 2. Amused
 3. Enlightened
 4. Confident

Question ID : 441009348728
Option 1 ID : 4410091361230
Option 2 ID : 4410091361233
Option 3 ID : 4410091361232
Option 4 ID : 4410091361231

Q.8 Choose the word opposite in meaning to the given word.
Deprecate

- Ans 1. Condemn
 2. Minimize
 3. Diminish
 4. Applaud

Question ID : 441009410134
Option 1 ID : 4410091605929
Option 2 ID : 4410091605926
Option 3 ID : 4410091605928
Option 4 ID : 4410091605927

Q.9 Choose the appropriate word from the options given below to substitute the given group of words

One who has the art of speaking in such a way that the sound seems to come from another person

- Ans 1. Ventriloquist
 2. Industrious
 3. Ambidextrous
 4. Biblioklept

Question ID : 4410091010658
Option 1 ID : 4410093994287
Option 2 ID : 4410093994288
Option 3 ID : 4410093994289
Option 4 ID : 4410093994290

Q.10 Choose the correct one word substitution of the underlined group of words.

Nathan is a/an person who believes in the existence of God.

- Ans
- 1. Deist
 - 2. Atheist
 - 3. Theist
 - 4. Agnostic

Question ID : 4410091732496
Option 1 ID : 4410096832305
Option 2 ID : 4410096832303
Option 3 ID : 4410096832302
Option 4 ID : 4410096832304

Q.11 Choose the option that best explains the meaning of the given proverb.

A danger foreseen is half avoided

- Ans
- 1. Anticipating danger helps deal with it
 - 2. Dangers can only be half avoided
 - 3. Facing danger helps avoid it
 - 4. Not all risks are worth taking

Question ID : 4410091012582
Option 1 ID : 4410094001993
Option 2 ID : 4410094001992
Option 3 ID : 4410094001991
Option 4 ID : 4410094001994

Q.12 Select the wrongly spelt word from the options given below.

- Ans
- 1. Category
 - 2. Occurrence
 - 3. Accommodate
 - 4. Embarras

Question ID : 441009349851
Option 1 ID : 4410091365669
Option 2 ID : 4410091365668
Option 3 ID : 4410091365667
Option 4 ID : 4410091365666

Q.13 A sentence is divided into the following different segments. Rearrange all the segments to form a coherent sentence.

his arrest (O) / the newspaper (P) / provided information (Q) / leading to (R) / in Rajkot (S)

- Ans
- 1. OPQRS
 - 2. PQROS
 - 3. QRSPQ
 - 4. RSOQP

Question ID : 4410091010686

Option 1 ID : 4410093994400

Option 2 ID : 4410093994401

Option 3 ID : 4410093994399

Option 4 ID : 4410093994402

Q.14 Choose the suitable proverb for the given expression.
A jack of all trades is master of none -

- Ans
- 1. A person with some knowledge of several fields can't be a master in any of them
 - 2. A person with full knowledge of several fields can't be a master in any of them
 - 3. A person with full knowledge of several fields can be a master in any of them
 - 4. A person with some knowledge of several fields can be a master in any of them

Question ID : 4410091013076

Option 1 ID : 4410094003968

Option 2 ID : 4410094003967

Option 3 ID : 4410094003970

Option 4 ID : 4410094003969

Q.15 Select the most appropriate antonym of the given word.
Augment

- Ans
- 1. Decrease
 - 2. Grow
 - 3. Supplement
 - 4. Rise

Question ID : 441009411246

Option 1 ID : 4410091610374

Option 2 ID : 4410091610377

Option 3 ID : 4410091610376

Option 4 ID : 4410091610375

Comprehension:

Read the passage give below and answer the questions given below.

One of the most powerful aspects of travel is its ability to deepen our connection with humanity. Simple acts of kindness—sharing a smile, assisting a stranger, or chatting with locals—create moments of genuine warmth and raise our vibrations. These interactions help us appreciate the inherent goodness in people and the wonder of our interconnectedness with others.

On a recent trip to Kerala, I boarded a public bus for a short ride. A visibly stressed woman in her late thirties stood near my seat, clutching a heavy bag with one hand while gripping the railing with the other. Although there was space to set her bag down, she held onto it, lost in her worries. Seeing her discomfort, I offered to hold her bag on my lap. Instantly, her tense expression softened into a radiant smile. She looked at me with joy, said a few grateful words, and placed her bag on the designated space.

This simple moment reminded me that when we operate from a place of joy and harmony, we naturally uplift others. Joy is contagious; by embodying compassion and positivity, we create ripples of happiness that can transform the energy and emotions of those around us.

SubQuestion No : 16

Q.16 Identify the most suitable title for the passage.

- Ans
- 1. The Challenges of Public Transportation in India
 - 2. The Importance of Packing Light for Journeys
 - 3. Overcoming Fear While Traveling Alone
 - 4. How Travel Fosters Kindness and Connection

Question ID : 441009976375
 Option 1 ID : 4410093858352
 Option 2 ID : 4410093858351
 Option 3 ID : 4410093858350
 Option 4 ID : 4410093858353

Comprehension:

Read the passage give below and answer the questions given below.

One of the most powerful aspects of travel is its ability to deepen our connection with humanity. Simple acts of kindness—sharing a smile, assisting a stranger, or chatting with locals—create moments of genuine warmth and raise our vibrations. These interactions help us appreciate the inherent goodness in people and the wonder of our interconnectedness with others.

On a recent trip to Kerala, I boarded a public bus for a short ride. A visibly stressed woman in her late thirties stood near my seat, clutching a heavy bag with one hand while gripping the railing with the other. Although there was space to set her bag down, she held onto it, lost in her worries. Seeing her discomfort, I offered to hold her bag on my lap. Instantly, her tense expression softened into a radiant smile. She looked at me with joy, said a few grateful words, and placed her bag on the designated space.

This simple moment reminded me that when we operate from a place of joy and harmony, we naturally uplift others. Joy is contagious; by embodying compassion and positivity, we create ripples of happiness that can transform the energy and emotions of those around us.

SubQuestion No : 17

Q.17 Identify the central theme of the passage.

- Ans
- 1. Traveling by bus can be uncomfortable.
 - 2. Heavy luggage causes stress during travel.
 - 3. Small acts of kindness can spread joy and uplift others.
 - 4. Smiling at strangers can be dangerous.

Question ID : 441009976376
 Option 1 ID : 4410093858355
 Option 2 ID : 4410093858356
 Option 3 ID : 4410093858357
 Option 4 ID : 4410093858354

Comprehension:

Read the passage give below and answer the questions given below.

One of the most powerful aspects of travel is its ability to deepen our connection with humanity. Simple acts of kindness—sharing a smile, assisting a stranger, or chatting with locals—create moments of genuine warmth and raise our vibrations. These interactions help us appreciate the inherent goodness in people and the wonder of our interconnectedness with others.

On a recent trip to Kerala, I boarded a public bus for a short ride. A visibly stressed woman in her late thirties stood near my seat, clutching a heavy bag with one hand while gripping the railing with the other. Although there was space to set her bag down, she held onto it, lost in her worries. Seeing her discomfort, I offered to hold her bag on my lap. Instantly, her tense expression softened into a radiant smile. She looked at me with joy, said a few grateful words, and placed her bag on the designated space.

This simple moment reminded me that when we operate from a place of joy and harmony, we naturally uplift others. Joy is contagious; by embodying compassion and positivity, we create ripples of happiness that can transform the energy and emotions of those around us.

SubQuestion No : 18

Q.18 Identify the inferences drawn from the passage.

- Ans
- 1. Stress during travel cannot be relieved by others.
 - 2. Acts of kindness can relieve someone's stress and brighten their mood.
 - 3. People who travel often are always happy.
 - 4. Travel prevents people from connecting with others.

Question ID : 441009976377
 Option 1 ID : 4410093858359
 Option 2 ID : 4410093858361
 Option 3 ID : 4410093858358
 Option 4 ID : 4410093858360

Comprehension:

Read the passage give below and answer the questions given below.

One of the most powerful aspects of travel is its ability to deepen our connection with humanity. Simple acts of kindness—sharing a smile, assisting a stranger, or chatting with locals—create moments of genuine warmth and raise our vibrations. These interactions help us appreciate the inherent goodness in people and the wonder of our interconnectedness with others.

On a recent trip to Kerala, I boarded a public bus for a short ride. A visibly stressed woman in her late thirties stood near my seat, clutching a heavy bag with one hand while gripping the railing with the other. Although there was space to set her bag down, she held onto it, lost in her worries. Seeing her discomfort, I offered to hold her bag on my lap. Instantly, her tense expression softened into a radiant smile. She looked at me with joy, said a few grateful words, and placed her bag on the designated space.

This simple moment reminded me that when we operate from a place of joy and harmony, we naturally uplift others. Joy is contagious; by embodying compassion and positivity, we create ripples of happiness that can transform the energy and emotions of those around us.

SubQuestion No : 19

Q.19 Identify the tone of the passage.

- Ans
- 1. Cynical
 - 2. Humorous
 - 3. Reflective
 - 4. Aggressive

Question ID : 441009976378
 Option 1 ID : 4410093858362
 Option 2 ID : 4410093858365
 Option 3 ID : 4410093858363
 Option 4 ID : 4410093858364

Comprehension:

Read the passage give below and answer the questions given below.

One of the most powerful aspects of travel is its ability to deepen our connection with humanity. Simple acts of kindness—sharing a smile, assisting a stranger, or chatting with locals—create moments of genuine warmth and raise our vibrations. These interactions help us appreciate the inherent goodness in people and the wonder of our interconnectedness with others.

On a recent trip to Kerala, I boarded a public bus for a short ride. A visibly stressed woman in her late thirties stood near my seat, clutching a heavy bag with one hand while gripping the railing with the other. Although there was space to set her bag down, she held onto it, lost in her worries. Seeing her discomfort, I offered to hold her bag on my lap. Instantly, her tense expression softened into a radiant smile. She looked at me with joy, said a few grateful words, and placed her bag on the designated space.

This simple moment reminded me that when we operate from a place of joy and harmony, we naturally uplift others. Joy is contagious; by embodying compassion and positivity, we create ripples of happiness that can transform the energy and emotions of those around us.

SubQuestion No : 20

Q.20 Identify the antonym of the word 'compassion' (used in the passage).

- Ans
- 1. kindness
 - 2. indifference
 - 3. empathy
 - 4. sympathy

Question ID : 441009976379
Option 1 ID : 4410093858367
Option 2 ID : 4410093858368
Option 3 ID : 4410093858366
Option 4 ID : 4410093858369

Section : Test of Hindi Language and Comprehension

**Q.1 निम्नलिखित वाक्य को कारक के आधार पर पूर्ण कीजिए।
नैतिकता का सबसे निकटतम संबंध संस्कृति ---- होता है।**

- Ans
- 1. के लिए
 - 2. पर
 - 3. में
 - 4. से

Question ID : 441009825169
Option 1 ID : 4410093254794
Option 2 ID : 4410093254793
Option 3 ID : 4410093254792
Option 4 ID : 4410093254791

Q.2 'चौकड़ी भूल जाना' मुहावरे का अर्थ निम्न में से है-

- Ans
- 1. गणित न आना
 - 2. उछलना कूदना
 - 3. स्तब्ध हो जाना
 - 4. याददाश्त न रहना

Question ID : 441009205893
Option 1 ID : 441009809775
Option 2 ID : 441009809774
Option 3 ID : 441009809776
Option 4 ID : 441009809777

Q.3 'जो मृत्यु के समीप हो' वाक्यांश के लिए एक शब्द होगा

- Ans
- 1. मुमूर्ख
 - 2. मरा हुआ
 - 3. दिवंगत
 - 4. स्वर्गवासी

Question ID : 441009828828
Option 1 ID : 4410093268851
Option 2 ID : 4410093268852
Option 3 ID : 4410093268854
Option 4 ID : 4410093268853

Q.4 अधिकरण कारक की दृष्टि से निम्नलिखित वाक्य को पूर्ण करें-
वह बेल्जियम के जंगली इलाके ___ रहते थे।

- Ans
- 1. ने
 - 2. को
 - 3. से
 - 4. में

Question ID : 441009825199
Option 1 ID : 4410093254912
Option 2 ID : 4410093254914
Option 3 ID : 4410093254913
Option 4 ID : 4410093254911

Q.5 दिए गए वाक्य में उचित रीतिवाचक क्रिया-विशेषण शब्द का चयन करके रिक्त स्थान की पूर्ति करें -
शिक्षकों द्वारा छात्रों के प्रशिक्षण के लिए----- पाठ-योजना तैयार की गई।

- Ans
- 1. बहुत बड़ी
 - 2. युक्तिपूर्वक
 - 3. अभी-अभी
 - 4. यहाँ

Question ID : 4410091112979
Option 1 ID : 4410094387920
Option 2 ID : 4410094387919
Option 3 ID : 4410094387917
Option 4 ID : 4410094387918

Q.6 मेरी बेटी वर्ष की है।
उपरोक्त वाक्य में रिक्त स्थान की पूर्ति के लिए उचित विशेषण शब्द का चयन करें -

- Ans
- 1. अपनी
 - 2. अभी
 - 3. पुराना
 - 4. पाँच

Question ID : 4410091114145
Option 1 ID : 4410094392565
Option 2 ID : 4410094392562
Option 3 ID : 4410094392563
Option 4 ID : 4410094392564

Q.7 'दूसरों के गुणों में दोष ढूँढ़ने की वृत्ति का न होना' वाक्यांश के लिए एक सार्थक शब्द होगा-

- Ans
- 1. क्रोध
 - 2. जलन
 - 3. अनसूया
 - 4. बुराई

Question ID : 441009828829
Option 1 ID : 4410093268855
Option 2 ID : 4410093268856
Option 3 ID : 4410093268858
Option 4 ID : 4410093268857

Q.8 निम्नलिखित विकल्पों में से सही विकल्प का चयन करें।
'वाह! कितना घृणित दृश्य है' इस वाक्य में अशुद्ध अंश है-

- Ans
- 1. घृणित
 - 2. वाह
 - 3. दृश्य
 - 4. कितना

Question ID : 441009274357
Option 1 ID : 4410091065739
Option 2 ID : 4410091065740
Option 3 ID : 4410091065741
Option 4 ID : 4410091065738

Q.9 निम्नलिखित में से कौन-सा वाक्य शुद्ध है ?

- Ans
- 1. वह राजकीय विद्यालय में पढ़ता है।
 - 2. उसकी बीमारी का कारन क्या है ?
 - 3. उसे धोखा देकर लूट लिया।
 - 4. साधु बोला- तुम्हारा कल्याण हो।

Question ID : 4410091023324
Option 1 ID : 4410094044865
Option 2 ID : 4410094044868
Option 3 ID : 4410094044867
Option 4 ID : 4410094044866

Q.10 निम्नलिखित विकल्पों में से एक भिन्न अतिरिक्त वाक्य का चयन करें।

- Ans 1. लिखने वाले साहसी होते हैं
2. जैसे अखबार की भाषा, बोलचाल की भाषा,
3. लोक साहित्य या लोकगीतों की भाषा
4. सामान्य भाषा का स्वरूप प्रायः सूचनात्मक होता है,

Question ID : 441009225101
Option 1 ID : 441009881519
Option 2 ID : 441009881518
Option 3 ID : 441009881520
Option 4 ID : 441009881517

Q.11 निम्नलिखित वाक्यों में से अतिरिक्त वाक्य की पहचान करें-

- Ans 1. यह मान्यता यद्यपि अत्यन्त प्राचीन है किन्तु आज भी इसकी सत्यता को चुनौती देना सम्भव नहीं है।
2. साहित्य के अन्तर्गत नाटक सबसे अधिक विधा है, सुन्दर और आनन्ददायी जिसका भव्य आयोजन करके गुणी मर्मज्ञ आनन्द का अनुभव करते हैं।
3. नाटक प्राचीनकाल से ही कला जगत् में सर्वाधिक मनोरम और आकर्षक कला-माध्यम माना जाता रहा है।
4. इन सबके समवेत प्रयास तथा इन सबकी समवेत प्रतिभा के योग से ही फिल्म की प्रस्तुति सम्भव होती है।

Question ID : 4410091191711
Option 1 ID : 4410094700916
Option 2 ID : 4410094700915
Option 3 ID : 4410094700914
Option 4 ID : 4410094700917

Q.12 'चमड़ी जाए पर दमड़ी ना जाए' लोकोक्ति का उपयुक्त अर्थ है-

- Ans 1. बहुत कंजूसी
2. अनेक क्षेत्रों का अनुभव
3. धर्म संकट की स्थिति
4. दुविधा में होना

Question ID : 441009826138
Option 1 ID : 4410093258678
Option 2 ID : 4410093258677
Option 3 ID : 4410093258679
Option 4 ID : 4410093258680

Q.13 निम्नलिखित विकल्प में से सही शब्द का चयन कर वाक्य को शुद्ध करें।
विराट कोहली ने अपने शतक से दर्शक का दिल जीत लिया।

- Ans 1. दिल जीत लिया
2. शतक से
3. अपने
4. दर्शक

Question ID : 44100996975
Option 1 ID : 441009385939
Option 2 ID : 441009385941
Option 3 ID : 441009385942
Option 4 ID : 441009385940

Q.14 दिए गए चार वाक्यों में से तीन वाक्य एक गद्य का अभिन्न अंग हैं, जबकि एक अतिरिक्त है निम्नलिखित विकल्प में से उस अतिरिक्त वाक्य को चुनिए-

- Ans
- 1. सामने केवल सरसों के तेल का प्रकाश था और एक विशेष प्रकार की स्वच्छता थी।
 - 2. अशोक ने एक पैर रखकर अंदर झाँका।
 - 3. चिड़िया की तरह मुँह खोलकर वह हॉफती और उसका जी चाहता कि वह उड़ जाए।
 - 4. दोनों एक दूसरे से संयुक्त और जीवित।

Question ID : 44100959093
Option 1 ID : 441009235280
Option 2 ID : 441009235279
Option 3 ID : 441009235278
Option 4 ID : 441009235281

Q.15 निम्नलिखित वाक्य को स्थान वाचक क्रिया-विशेषण द्वारा पूर्ण करें।
तुम ___ पढ़ाई करो, मैं चाय लेकर आती हूँ।

- Ans
- 1. बस
 - 2. यहाँ
 - 3. ज़्यादा
 - 4. कल

Question ID : 4410091044948
Option 1 ID : 4410094128893
Option 2 ID : 4410094128890
Option 3 ID : 4410094128892
Option 4 ID : 4410094128891

Comprehension:

गद्यांश को पढ़कर प्रश्नों के उत्तर दीजिए-

अतिवृष्टि होने से नदी-नाले, तालाब अपनी सीमाओं को तोड़ देते हैं। चारों ओर जल ही जल दिखाई पड़ता है। बड़े-बड़े पेड़ पानी में बहे चले जाते हैं। खड़ी हुई फसलें बरबाद हो जाती हैं। सैकड़ों गाँव बाढ़ की चपेट में आकर अपना अस्तित्व खो बैठते हैं। सड़कें, रेल लाइनें, पुल सभी इसमें क्षतिग्रस्त हो जाते हैं। मनुष्य या पशु-पक्षी जो भी इसकी चपेट में आ जाता है, उसका भगवान् ही रक्षक होता है। बाढ़ से होने वाली धन-जन की अपार क्षति हमारे हृदय को दहला देती है। वर्षा से हैजा, मलेरिया आदि अनेक रोग भी फैलने लगते हैं।

अनेक कठिनाइयों और असुविधाओं को उत्पन्न करने पर भी वर्षा हमारे जीवन की पोषक है, मन को आनन्दित करने वाली है और जीवन का प्राण है। वर्षा के अभाव में सारी पृथ्वी रेगिस्तान हो जाती है। अतः वर्षा ऋतु, सब ऋतुओं में अत्यधिक महत्त्वपूर्ण है।

SubQuestion No : 16

Q.16 अतिवृष्टि होने से नदी-नाले क्या करते हैं ?

- Ans
- 1. अतिवृष्टि होने से नदी-नाले अपनी सीमाओं को तोड़ देते हैं।
 - 2. नदी-नाले सूख जाते हैं।
 - 3. नदी -नाले बहने लगते हैं।
 - 4. नदी-नाले का पानी स्थिर हो जाता है।

Question ID : 4410091064014
Option 1 ID : 4410094203247
Option 2 ID : 4410094203248
Option 3 ID : 4410094203245
Option 4 ID : 4410094203246

Comprehension:

गद्यांश को पढ़कर प्रश्नों के उत्तर दीजिए-

अतिवृष्टि होने से नदी-नाले, तालाब अपनी सीमाओं को तोड़ देते हैं। चारों ओर जल ही जल दिखाई पड़ता है। बड़े-बड़े पेड़ पानी में बहे चले जाते हैं। खड़ी हुई फसलें बरबाद हो जाती हैं। सैकड़ों गाँव बाढ़ की चपेट में आकर अपना अस्तित्व खो बैठते हैं। सड़कें, रेल लाइनें, पुल सभी इसमें क्षतिग्रस्त हो जाते हैं। मनुष्य या पशु-पक्षी जो भी इसकी चपेट में आ जाता है, उसका भगवान् ही रक्षक होता है। बाढ़ से होने वाली धन-जन की अपार क्षति हमारे हृदय को दहला देती है। वर्षा से हैजा, मलेरिया आदि अनेक रोग भी फैलने लगते हैं।

अनेक कठिनाइयों और असुविधाओं को उत्पन्न करने पर भी वर्षा हमारे जीवन की पोषक है, मन को आनन्दित करने वाली है और जीवन का प्राण है। वर्षा के अभाव में सारी पृथ्वी रेगिस्तान हो जाती है। अतः वर्षा ऋतु, सब ऋतुओं में अत्यधिक महत्त्वपूर्ण है।

SubQuestion No : 17

Q.17 अतिवृष्टि होने पर चारों ओर क्या दिखाई पड़ता है ?

- Ans**
- 1. चारों ओर बादल दिखाई देता है।
 - 2. चारों ओर हरी-भरी धरती दिखाई देती है।
 - 3. चारों ओर खेत-खलिहान दिखाई देता है।
 - 4. चारों ओर जल ही जल दिखाई पड़ता है।

Question ID : 4410091064015

Option 1 ID : 4410094203250

Option 2 ID : 4410094203249

Option 3 ID : 4410094203251

Option 4 ID : 4410094203252

Comprehension:

गद्यांश को पढ़कर प्रश्नों के उत्तर दीजिए-

अतिवृष्टि होने से नदी-नाले, तालाब अपनी सीमाओं को तोड़ देते हैं। चारों ओर जल ही जल दिखाई पड़ता है। बड़े-बड़े पेड़ पानी में बहे चले जाते हैं। खड़ी हुई फसलें बरबाद हो जाती हैं। सैकड़ों गाँव बाढ़ की चपेट में आकर अपना अस्तित्व खो बैठते हैं। सड़कें, रेल लाइनें, पुल सभी इसमें क्षतिग्रस्त हो जाते हैं। मनुष्य या पशु-पक्षी जो भी इसकी चपेट में आ जाता है, उसका भगवान् ही रक्षक होता है। बाढ़ से होने वाली धन-जन की अपार क्षति हमारे हृदय को दहला देती है। वर्षा से हैजा, मलेरिया आदि अनेक रोग भी फैलने लगते हैं।

अनेक कठिनाइयों और असुविधाओं को उत्पन्न करने पर भी वर्षा हमारे जीवन की पोषक है, मन को आनन्दित करने वाली है और जीवन का प्राण है। वर्षा के अभाव में सारी पृथ्वी रेगिस्तान हो जाती है। अतः वर्षा ऋतु, सब ऋतुओं में अत्यधिक महत्त्वपूर्ण है।

SubQuestion No : 18

Q.18 खड़ी फसलें क्या हो जाती हैं ?

- Ans**
- 1. खड़ी फसलें लहलहाने लगती हैं।
 - 2. खड़ी फसलें बरबाद हो जाती हैं।
 - 3. खड़ी फसलें और अच्छी हो जाती हैं।
 - 4. खड़ी फसलें पक जाती हैं।

Question ID : 4410091064016

Option 1 ID : 4410094203255

Option 2 ID : 4410094203253

Option 3 ID : 4410094203256

Option 4 ID : 4410094203254

Comprehension:

गद्यांश को पढ़कर प्रश्नों के उत्तर दीजिए-

अतिवृष्टि होने से नदी-नाले, तालाब अपनी सीमाओं को तोड़ देते हैं। चारों ओर जल ही जल दिखाई पड़ता है। बड़े-बड़े पेड़ पानी में बहे चले जाते हैं। खड़ी हुई फसलें बरबाद हो जाती हैं। सैकड़ों गाँव बाढ़ की चपेट में आकर अपना अस्तित्व खो बैठते हैं। सड़कें, रेल लाइनें, पुल सभी इसमें क्षतिग्रस्त हो जाते हैं। मनुष्य या पशु-पक्षी जो भी इसकी चपेट में आ जाता है, उसका भगवान् ही रक्षक होता है। बाढ़ से होने वाली धन-जन की अपार क्षति हमारे हृदय को दहला देती है। वर्षा से हैजा, मलेरिया आदि अनेक रोग भी फैलने लगते हैं।

अनेक कठिनाइयों और असुविधाओं को उत्पन्न करने पर भी वर्षा हमारे जीवन की पोषक है, मन को आनन्दित करने वाली है और जीवन का प्राण है। वर्षा के अभाव में सारी पृथ्वी रेगिस्तान हो जाती है। अतः वर्षा ऋतु, सब ऋतुओं में अत्यधिक महत्त्वपूर्ण है।

SubQuestion No : 19

Q.19 वर्षा से कौन-से रोग फैलने लगते हैं।

- Ans**
- 1. वर्षा में लोग नीरोग रहते हैं।
 - 2. वर्षा से खौंसी जैसे रोग फैलने लगते हैं।
 - 3. वर्षा से हैजा, मलेरिया आदि रोग फैलने लगते हैं।
 - 4. वर्षा से कोई रोग नहीं फैलता।

Question ID : 4410091064017

Option 1 ID : 4410094203260

Option 2 ID : 4410094203257

Option 3 ID : 4410094203259

Option 4 ID : 4410094203258

Comprehension:

गद्यांश को पढ़कर प्रश्नों के उत्तर दीजिए-

अतिवृष्टि होने से नदी-नाले, तालाब अपनी सीमाओं को तोड़ देते हैं। चारों ओर जल ही जल दिखाई पड़ता है। बड़े-बड़े पेड़ पानी में बहे चले जाते हैं। खड़ी हुई फसलें बरबाद हो जाती हैं। सैकड़ों गाँव बाढ़ की चपेट में आकर अपना अस्तित्व खो बैठते हैं। सड़कें, रेल लाइनें, पुल सभी इसमें क्षतिग्रस्त हो जाते हैं। मनुष्य या पशु-पक्षी जो भी इसकी चपेट में आ जाता है, उसका भगवान् ही रक्षक होता है। बाढ़ से होने वाली धन-जन की अपार क्षति हमारे हृदय को दहला देती है। वर्षा से हैजा, मलेरिया आदि अनेक रोग भी फैलने लगते हैं।

अनेक कठिनाइयों और असुविधाओं को उत्पन्न करने पर भी वर्षा हमारे जीवन की पोषक है, मन को आनन्दित करने वाली है और जीवन का प्राण है। वर्षा के अभाव में सारी पृथ्वी रेगिस्तान हो जाती है। अतः वर्षा ऋतु, सब ऋतुओं में अत्यधिक महत्त्वपूर्ण है।

SubQuestion No : 20

Q.20 वर्षा के अभाव में सारी पृथ्वी क्या हो जाती है ?

- Ans**
- 1. वर्षा के अभाव में धरती प्यारी हो जाती है।
 - 2. वर्षा के अभाव में सारी पृथ्वी रेगिस्तान हो जाती है।
 - 3. वर्षा के अभाव में सारी पृथ्वी हरी-भरी हो जाती है।
 - 4. वर्षा के अभाव में पृथ्वी पेड़-पौधों से भर जाती है।

Question ID : 4410091064018

Option 1 ID : 4410094203262

Option 2 ID : 4410094203264

Option 3 ID : 4410094203261

Option 4 ID : 4410094203263

Q.1 निम्नलिखित वाक्य में वर्तनी की त्रुटियाँ पहचानें और शुद्ध वाक्य लिखें।
एक अच्छी पोस्तक हमें जीवन की एक पाठ सिका देती है।

- Ans
- 1. एक अच्छी पुस्तक हमें जीवन के एक पाठ सेखा देति है।
 - 2. एक अच्छी पुस्ताक हमें जिवन का एक पठ सिखा देती है।
 - 3. एक अच्छी पुस्तक हमें जीवन का एक पाठ सिखा देती है।
 - 4. एक अच्छी पुस्तक हमें जीवान का एक पाठ सिखा देती है।

Question ID : 4410091045121
Option 1 ID : 4410094129576
Option 2 ID : 4410094129575
Option 3 ID : 4410094129574
Option 4 ID : 4410094129577

Q.2 दिये गये वाक्य के किस भाग में त्रुटि है?
'उसने झूठ न बोलने की प्रतीज्ञा की है।'

- Ans
- 1. प्रतीज्ञा
 - 2. बोलने
 - 3. उसने
 - 4. झूठ

Question ID : 4410091032846
Option 1 ID : 4410094083057
Option 2 ID : 4410094083056
Option 3 ID : 4410094083055
Option 4 ID : 4410094083054

Q.3 निम्नलिखित वाक्य में वर्तनी की त्रुटियाँ पहचानें और शुद्ध वाक्य लिखें।
मुन्नी की पेट मे दरद है, इसे जल्दी दावाई दे दो।

- Ans
- 1. मुन्नी के पेट में दर्द है, इसे जलदी दवाई दे दो।
 - 2. मुन्नी के पेट में दर्द हैं, इसे जल्दी दवाई दे दो।
 - 3. मुन्नी के पेट में दर्द है, इसे जल्दी दवाई दे दो।
 - 4. मोन्नी का पेट में दर्द है, इसे जल्दी दावाई दे दो।

Question ID : 4410091045089
Option 1 ID : 4410094129448
Option 2 ID : 4410094129447
Option 3 ID : 4410094129446
Option 4 ID : 4410094129449

Q.4 'कहें खेत की सुने खलिहान की' लोकोक्ति का सही अर्थ क्या होगा?

- Ans 1. कुछ का कुछ सुनना
 2. देखा देखी काम करना
 3. अवसरवादी होना
 4. व्यर्थ आडंबर

Question ID : 4410091791859
 Option 1 ID : 4410097065666
 Option 2 ID : 4410097065667
 Option 3 ID : 4410097065669
 Option 4 ID : 4410097065668

Q.5 पत्र शब्द के अर्थों का सही विकल्प चुनिए-

- Ans 1. पत्ता, चिट्ठी
 2. पत्ता, रस्सी
 3. तीर, देवता
 4. अमृत, पौधा

Question ID : 4410091023531
 Option 1 ID : 4410094045714
 Option 2 ID : 4410094045716
 Option 3 ID : 4410094045713
 Option 4 ID : 4410094045715

Q.6 'धन', 'अभिप्राय' के लिए अनेकार्थी शब्द है-

- Ans 1. अहि
 2. सारंग
 3. अर्थ
 4. अर्क

Question ID : 441009990140
 Option 1 ID : 4410093912762
 Option 2 ID : 4410093912760
 Option 3 ID : 4410093912761
 Option 4 ID : 4410093912763

Q.7 दिए गए विकल्पों में से तालाब का पर्यायवाची शब्द चुनिए -

- Ans 1. रत्नाकर
 2. नीरज
 3. पद्माकर
 4. किंकर

Question ID : 44100955239
 Option 1 ID : 441009219927
 Option 2 ID : 441009219924
 Option 3 ID : 441009219926
 Option 4 ID : 441009219925

Q.8 अस्त का विलोमार्थी शब्द है।

- Ans 1. उदय
 2. किरण
 3. उत्थान
 4. उजाला

Question ID : 441009205909
Option 1 ID : 441009809838
Option 2 ID : 441009809840
Option 3 ID : 441009809841
Option 4 ID : 441009809839

Q.9 निम्नलिखित मुहावरे के उचित अर्थ का चयन कीजिए-
खाक छानना

- Ans 1. बेफिक्र
 2. मिट्टी में ढूँढ़ना
 3. भटकना
 4. लापता होना

Question ID : 4410091100657
Option 1 ID : 4410094339988
Option 2 ID : 4410094339986
Option 3 ID : 4410094339989
Option 4 ID : 4410094339987

Q.10 निम्न शब्दों में से 'नक्षत्र' का पर्याय है-

- Ans 1. पूनम
 2. तारक
 3. चंद्र
 4. दिवाकर

Question ID : 441009205891
Option 1 ID : 441009809769
Option 2 ID : 441009809766
Option 3 ID : 441009809767
Option 4 ID : 441009809768

Q.11 निम्नलिखित विकल्पों में से अकस्मात् का तद्भव शब्द पहचानें।

- Ans 1. अंजान
 2. अथिति
 3. आज्ञा
 4. अचानक

Question ID : 4410091045128
Option 1 ID : 4410094129604
Option 2 ID : 4410094129603
Option 3 ID : 4410094129605
Option 4 ID : 4410094129602

Q.12 निम्न विकल्पों में वाक्य के रेखांकित शब्द में शुद्ध वर्तनी का चयन करें-
मनुष्य को परमखापेक्षी नहीं बनना चाहिए।

- Ans 1. परमुखापेक्षी
 2. परमुखापेक्षि
 3. परामुखपेक्षी
 4. परामुखापेक्षि

Question ID : 4410091192405
Option 1 ID : 4410094703551
Option 2 ID : 4410094703548
Option 3 ID : 4410094703549
Option 4 ID : 4410094703550

Q.13 निम्न मुहावरे के अर्थ को बताएं, सही विकल्प का चयन करें -
'ओठ सीकर रहना'

- Ans 1. खूब मीठा होना ।
 2. सिर पर लेना ।
 3. चुप रहना ।
 4. मुसीबत को दूर करना ।

Question ID : 441009205742
Option 1 ID : 441009809170
Option 2 ID : 441009809172
Option 3 ID : 441009809171
Option 4 ID : 441009809173

Q.14 'भौरा' का तत्सम शब्द होगा -

- Ans 1. मंडूक
 2. भ्रमर
 3. मधुका
 4. मधूक

Question ID : 4410091114096
Option 1 ID : 4410094392372
Option 2 ID : 4410094392371
Option 3 ID : 4410094392373
Option 4 ID : 4410094392370

Q.15 'सिंह' का पर्यायवाची है -

- Ans 1. दामोदर
 2. विहग
 3. मृगांक
 4. केहरी

Question ID : 441009205934
Option 1 ID : 441009809938
Option 2 ID : 441009809939
Option 3 ID : 441009809941
Option 4 ID : 441009809940

Comprehension:

गद्यांश के आधार पर प्रश्नों के उत्तर दें।

अनुशासन की दृष्टि से प्रथम चरण हमारा नौनिहाल विद्यार्थी हो सकता है। प्रारम्भ से ही यदि हमारा जीवन अनुशासित होगा तो तमाम समस्याओं का समाधान। स्वस्थ और निरपेक्ष तथ्यों पर भविष्य में कर सकते हैं। अनुशासन से अभिप्राय नियम, सिद्धांत तथा आदेशों का पालन करना है। जीवन को आदर्श तरीके से जीने के लिए अनुशासन में रहना आवश्यक है अनुशासन का अर्थ है। खुद को वश में रखना विद्यार्थी का जीवन अनुशासित व्यक्ति का जीवन कहलाता है। इसे विद्यालयों के नियमों पर चलना होता है। शिक्षक का आदेश मानना पड़ता है। ऐसा करने पर वह बाद में योग्य, चरित्रवान व आदर्श नागरिक कहलाता है। विद्यार्थी जीवन में ही बच्चे में शारीरिक व मानसिक आदि गुणों का विकास होता है।

SubQuestion No : 16

Q.16 प्रस्तुत गद्यांश के अनुसार, गद्यांश का उपयुक्त शीर्षक होगा -

- Ans
- 1. विद्यार्थी
 - 2. विद्यार्थी और अनुशासन
 - 3. विद्यालयी शिक्षा
 - 4. अनुशासन

Question ID : 4410091063954

Option 1 ID : 4410094203046

Option 2 ID : 4410094203045

Option 3 ID : 4410094203048

Option 4 ID : 4410094203047

Comprehension:

गद्यांश के आधार पर प्रश्नों के उत्तर दें।

अनुशासन की दृष्टि से प्रथम चरण हमारा नौनिहाल विद्यार्थी हो सकता है। प्रारम्भ से ही यदि हमारा जीवन अनुशासित होगा तो तमाम समस्याओं का समाधान। स्वस्थ और निरपेक्ष तथ्यों पर भविष्य में कर सकते हैं। अनुशासन से अभिप्राय नियम, सिद्धांत तथा आदेशों का पालन करना है। जीवन को आदर्श तरीके से जीने के लिए अनुशासन में रहना आवश्यक है अनुशासन का अर्थ है। खुद को वश में रखना विद्यार्थी का जीवन अनुशासित व्यक्ति का जीवन कहलाता है। इसे विद्यालयों के नियमों पर चलना होता है। शिक्षक का आदेश मानना पड़ता है। ऐसा करने पर वह बाद में योग्य, चरित्रवान व आदर्श नागरिक कहलाता है। विद्यार्थी जीवन में ही बच्चे में शारीरिक व मानसिक आदि गुणों का विकास होता है।

SubQuestion No : 17

Q.17 प्रस्तुत गद्यांश में प्रयुक्त शब्द 'योग्य' का विलोम है -

- Ans
- 1. मूर्ख
 - 2. कायर
 - 3. बहादुर
 - 4. अयोग्य

Question ID : 4410091063955

Option 1 ID : 4410094203052

Option 2 ID : 4410094203049

Option 3 ID : 4410094203051

Option 4 ID : 4410094203050

Comprehension:

गद्यांश के आधार पर प्रश्नों के उत्तर दें।

अनुशासन की दृष्टि से प्रथम चरण हमारा नौनिहाल विद्यार्थी हो सकता है। प्रारम्भ से ही यदि हमारा जीवन अनुशासित होगा तो तमाम समस्याओं का समाधान। स्वस्थ और निरपेक्ष तथ्यों पर भविष्य में कर सकते हैं। अनुशासन से अभिप्राय नियम, सिद्धांत तथा आदेशों का पालन करना है। जीवन को आदर्श तरीके से जीने के लिए अनुशासन में रहना आवश्यक है अनुशासन का अर्थ है। खुद को वश में रखना विद्यार्थी का जीवन अनुशासित व्यक्ति का जीवन कहलाता है। इसे विद्यालयों के नियमों पर चलना होता है। शिक्षक का आदेश मानना पड़ता है। ऐसा करने पर वह बाद में योग्य, चरित्रवान व आदर्श नागरिक कहलाता है। विद्यार्थी जीवन में ही बच्चे में शारीरिक व मानसिक आदि गुणों का विकास होता है।

SubQuestion No : 18

Q.18 प्रस्तुत गद्यांश में प्रयुक्त शब्द 'अभिप्राय' का पर्यायवाची है -

- Ans
- 1. नियम
 - 2. आदेश
 - 3. तात्पर्य
 - 4. अनुशासन

Question ID : 4410091063956

Option 1 ID : 4410094203054

Option 2 ID : 4410094203053

Option 3 ID : 4410094203055

Option 4 ID : 4410094203056

Comprehension:

गद्यांश के आधार पर प्रश्नों के उत्तर दें।

अनुशासन की दृष्टि से प्रथम चरण हमारा नौनिहाल विद्यार्थी हो सकता है। प्रारम्भ से ही यदि हमारा जीवन अनुशासित होगा तो तमाम समस्याओं का समाधान। स्वस्थ और निरपेक्ष तथ्यों पर भविष्य में कर सकते हैं। अनुशासन से अभिप्राय नियम, सिद्धांत तथा आदेशों का पालन करना है। जीवन को आदर्श तरीके से जीने के लिए अनुशासन में रहना आवश्यक है अनुशासन का अर्थ है। खुद को वश में रखना विद्यार्थी का जीवन अनुशासित व्यक्ति का जीवन कहलाता है। इसे विद्यालयों के नियमों पर चलना होता है। शिक्षक का आदेश मानना पड़ता है। ऐसा करने पर वह बाद में योग्य, चरित्रवान व आदर्श नागरिक कहलाता है। विद्यार्थी जीवन में ही बच्चे में शारीरिक व मानसिक आदि गुणों का विकास होता है।

SubQuestion No : 19

Q.19 प्रस्तुत गद्यांश में प्रयुक्त शब्द 'चरित्रवान' का अर्थ है -

- Ans
- 1. चरित्रहीन
 - 2. निम्न आचरण वाला व्यक्ति
 - 3. अच्छे आचरण वाला व्यक्ति
 - 4. मध्यम आचरण वाला व्यक्ति

Question ID : 4410091063957

Option 1 ID : 4410094203058

Option 2 ID : 4410094203059

Option 3 ID : 4410094203057

Option 4 ID : 4410094203060

Test

Prime

By Adda247

Previous Year Papers PDF

PRACTICE MORE, SCORE HIGHER!



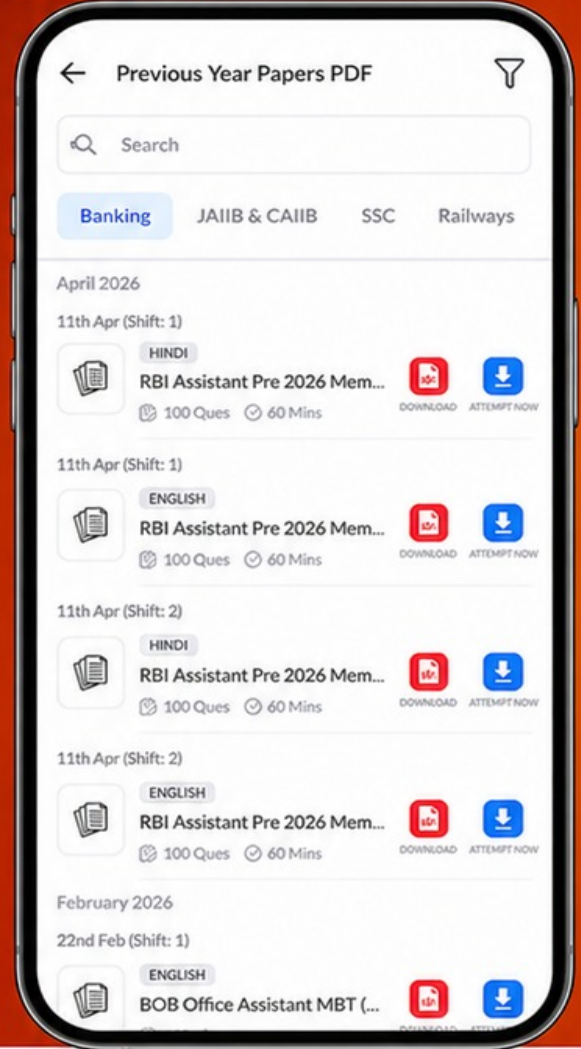
Free
25,000+
PDF's

High-Quality | Exam-Wise | Updated Regularly

ATTEMPT AS
MOCK



Turn PDFs into real exam experience.
Analyze. Improve. Succeed.



Topic-wise &
Exam-wise PDFs



Download &
Study Offline



Attempt as Mock
& Track Score



Smart Analysis
& Performance

AVAILABLE IN



Banking



SSC



Railway



Teaching



UGC



Agriculture



Nursing



Bihar



UP



Punjab



WB



Odisha



TN



AP & Telangana



Haryana



DOWNLOAD THE APP



Comprehension:

गद्यांश के आधार पर प्रश्नों के उत्तर दें।

अनुशासन की दृष्टि से प्रथम चरण हमारा नौनिहाल विद्यार्थी हो सकता है। प्रारम्भ से ही यदि हमारा जीवन अनुशासित होगा तो तमाम समस्याओं का समाधान। स्वस्थ और निरपेक्ष तथ्यों पर भविष्य में कर सकते हैं। अनुशासन से अभिप्राय नियम, सिद्धांत तथा आदेशों का पालन करना है। जीवन को आदर्श तरीके से जीने के लिए अनुशासन में रहना आवश्यक है अनुशासन का अर्थ है। खुद को वश में रखना विद्यार्थी का जीवन अनुशासित व्यक्ति का जीवन कहलाता है। इसे विद्यालयों के नियमों पर चलना होता है। शिक्षक का आदेश मानना पड़ता है। ऐसा करने पर वह बाद में योग्य, चरित्रवान व आदर्श नागरिक कहलाता है। विद्यार्थी जीवन में ही बच्चे में शारीरिक व मानसिक आदि गुणों का विकास होता है।

SubQuestion No : 20

Q.20 प्रस्तुत गद्यांश के आधार पर अनुशासन का क्या अर्थ है -

- Ans
- 1. स्वयं को स्वतंत्र रखना
 - 2. स्वयं को दास बनाकर रखना
 - 3. स्वयं को वश में रखना
 - 4. स्वयं को विद्यार्थी बनाकर रखना

Question ID : 4410091063958

Option 1 ID : 4410094203061

Option 2 ID : 4410094203063

Option 3 ID : 4410094203062

Option 4 ID : 4410094203064

