



## RAILWAY RECRUITMENT BOARDS

### रेलवे भर्ती बोर्ड

### RRB ALP & TECHNICIANS 2018

Roll No:	
ParticipantsName	
TestCenterName:	ION Digital ZoneiDZ2Patliputra
TestDate:	09/08/2018
Test Time:	4:00 PM - 5:00 PM
Subject:	ALP Technicians

- Options shown in green color with a tick icon are correct
- Chosen option on top right of the question indicates the option selected by the candidate

Q.1 M कक्ष में शामिल हो सकने वाले इलेक्ट्रॉनों की अधिकतम संख्या कितनी होती है :

The maximum number of electrons that can be accommodated in M shell is:

- Ans
- 1. 8
  - 2. 2
  - 3. 18
  - 4. 32

Question ID : 9864493253

Status : Answered

Chosen Option : 3

Q.2 \$M@A#N2B4O&3C5P+D2

ऊपर दिए अनुक्रम को देखकर बताइए कि कौन से अक्षर निम्न समूह का हिस्सा नहीं हैं:

AO+, MB5, N32, \$2P  
\$M@A#N2B4O&3C5P+D2

Using the above sequence find the characters that do NOT belong to the group:

AO+, MB5, N32, \$2P

- Ans
- 1. N32
  - 2. AO+
  - 3. \$2P
  - 4. MB5

Question ID : 9864493744

Status : Not Attempted and  
Marked For Review

Chosen Option : --

Q.3 दो चचेरे भाइयों की वर्तमान आयु का योग 46 वर्ष है। आठ साल पहले, बड़े की आयु, छोटे की आयु से दोगुनी थी। बड़े चचेरे भाई की वर्तमान आयु क्या है?

The sum of the present ages of two cousins is 46 years. Eight years ago, the elder one was twice as old as the younger one. What is the present age of the elder cousin?

- Ans
- 1. 22 वर्ष  
22 years
  - 2. 30 वर्ष  
30 years
  - 3. 28 वर्ष  
28 years

Question ID : 9864492872

Status : Answered

Chosen Option : 3

**Test  
Prime**

By Adda247

# ALL EXAMS, ONE SUBSCRIPTION



Test. Analyze. Improve. Repeat.



**Don't just prepare. Perform.**

Test Prime — built only for mock tests.



**1,50,000+**  
Mock Tests



**25,000+**  
Previous Year Papers



**800+**  
Exam Covered



**500% Refund**  
on Selection



**5 lakh+**  
Free Quizzes



**Daily**  
Free PDFs



**Job Alerts**  
Stay Updated

- Multilingual
- Detailed Solution
- Strong and Weak Areas



**All India  
Rankings**

Compete with lakhs.  
Rank. Improve. Repeat.



← Adda247 test prime

Rating ▾

Editors' choice

New



Adda247 Test Prime  
Adda Education • Education  
Installed



**DOWNLOAD THE APP**



4. 26 वर्ष  
26 years

Q.4 पुराने स्टॉक को समाप्त करने के लिए, एक व्यक्ति ने ₹ 3,420 में एक चाय का सेट बेचा जो लागत कीमत से 43% कम था। इस पर 10% लाभ प्राप्त हेतु विक्रेता को सेट ₹ \_\_\_\_\_ अधिक में बेचना चाहिए था।

To dispose of the old stocks, a person sold a tea-set for ₹ 3,420, which was 43% below the cost price. In order to make a profit of 10% the seller should have sold the set for ₹ \_\_\_\_\_ more.

- Ans  1. ₹ 3,180  
 2. ₹ 2,580  
 3. ₹ 1,812.60  
 4. ₹ 2,664.42

Question ID : 9864492868

Status : Answered

Chosen Option : 4

Q.5 भारत की विदेशी खुफिया सेवा रिसर्च और एनालिसिस विंग (राँ) के वर्तमान निर्देशक कौन हैं?

Who is the current director of Research and Analysis Wing (RAW), India's foreign intelligence service?

- Ans  1. किरण बेदी  
Kiran Bedi  
 2. अनिल कुमार धस्माना  
Anil Kumar Dhasmana  
 3. दिनेश्वर शर्मा  
Dineshwar Sharma  
 4. अजीत डोभाल  
Ajit Doval

Question ID : 9864492275

Status : Not Answered

Chosen Option : --

Q.6 दिसंबर 2018 की कौन सी तिथियों को बुधवार होगा?

On which dates of December, 2018 will be Wednesdays?

- Ans  1. 4, 11, 18 और 25  
 2. 5, 12, 19 और 26  
 3. 3, 10, 17 और 24  
 4. 6, 13, 20 और 27

Question ID : 9864492554

Status : Not Attempted and  
Marked For Review

Chosen Option : --

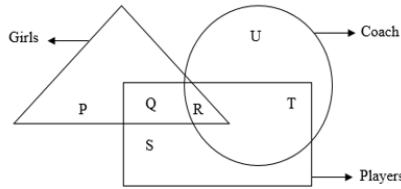
Q.7

Question ID : 9864493812

Status : Answered

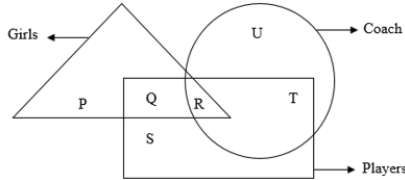
Chosen Option : 2

दिए गए वेन आरेख में कौन सा स्थान उस कोच का प्रतिनिधित्व कर रहा है जो एक खिलाड़ी भी है लेकिन लड़की नहीं है?



Girls- लड़कियां Coach- कोच Players- खिलाड़ी

In the following Venn diagram which region represents the coach who is also a player but not a girl?



- Ans
- 1. U
  - 2. T
  - 3. R
  - 4. S

Q.8 निम्न हल करें,

$$22 - (1/4) \{-5 - (-48) \div (-16)\}$$

Solve the following:

$$22 - (1/4) \{-5 - (-48) \div (-16)\}$$

- Ans
- 1. 0
  - 2. 24
  - 3. 22
  - 4. 21

Question ID : 9864492479

Status : Answered

Chosen Option : 2

Q.9 स्वाद का पता लगाने के लिए अभिग्राहक को क्या कहते हैं?

What are the receptors for detecting taste called?

- Ans
- 1. संवेदिक अभिग्राहक (Sensory receptors)

Sensory receptors

- 2.

रासायनिक अभिग्राहक (Chemical receptors)

Chemical receptors

- 3.

घ्राण अभिग्राहक (Olfactory receptors)

Olfactory receptors

- 4.

रस्वेदी अभिग्राहक (Gustatory receptors)

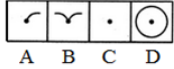
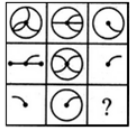
Gustatory receptors

Question ID : 9864493056

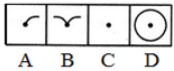
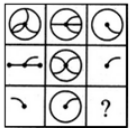
Status : Not Attempted and Marked For Review

Chosen Option : --

उस विकल्प का चयन करें जो दी गई आकृति के रिक्त स्थान के लिए उपयुक्त है।



Select the option that correctly fits in the blank space in the given figure.



- Ans
- 1. D
  - 2. A
  - 3. C
  - 4. B

Question ID : 9864493915

Status : Not Attempted and Marked For Review

Chosen Option : --

Q.11 यदि  $\tan \theta = \frac{7}{24}$  है, तो  $p$  का मान क्या होगा?  $\frac{\tan \theta - \sec \theta}{\sin \theta} = \frac{-p}{28}$

If  $\tan \theta = \frac{7}{24}$  then find the value of  $p$  such that  $\frac{\tan \theta - \sec \theta}{\sin \theta} = \frac{-p}{28}$

- Ans
- 1. 25
  - 2. 75
  - 3. 50
  - 4. 100

Question ID : 9864492576

Status : Not Attempted and Marked For Review

Chosen Option : --

Q.12 दिये गए संबंधित युग्म के आधार पर अनुपस्थित पद का चयन करें।

MAKING : KGMANI :: CAPETO : \_\_\_\_\_

Select the missing term based on the given related pair.

MAKING : KGMANI :: CAPETO : \_\_\_\_\_

- Ans
- 1. POCATE
  - 2. POTECA
  - 3. POCAET
  - 4. POACTE

Question ID : 9864494040

Status : Answered

Chosen Option : 1

Q.13 सार्वभौमिक गुरुत्वाकर्षण कॉन्स्टेंट (G) के मूल्य की खोज किसके द्वारा की गई:

The value of universal gravitation constant (G) was determined by:

- Ans
- 1. हेनरी केवेन्डिश  
Henry Cavendish

Question ID : 9864493579

Status : Answered

Chosen Option : 3

- 2. एंटोनी एल लेवोजियर  
Antoine L Lavoisier
- 3. आइजैक न्यूटन  
Isaac Newton
- 4. जॉन डाल्टन  
John Dalton

Q.14 निम्नलिखित में से कौन सा एक अम्ल का गुण नहीं है ?

Which of the following is NOT a property of acids?

Ans

- 1. अम्ल का स्वाद खट्टा होता है  
Acids have sour taste
- 2. अम्ल का स्वाद कड़वा होता है  
Acids have bitter taste

3. अम्ल क्षार के साथ मिलकर लवण बनाता है  
Acids form salts with bases

4. अम्ल नीले लिटमस को लाल में परिवर्तित कर देता है  
Acids turn blue litmus red

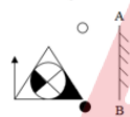
Question ID : 9864493290

Status : Answered

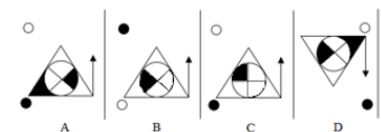
Chosen Option : 2

Q.15 जब नेचे के प्रश्न छवि (Problem figure) के सामने आइना रखा जाए तो दिए गए चार विकल्पों & (Answer Figures) में से प्रश्न छवि की सही दर्पण छवि कौन सी होगी ?

Problem Figure

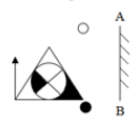


Answer Figures

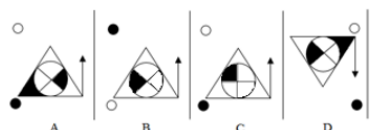


Choose the correct mirror image of the problem figure when the mirror is placed to the right of the figure.

Problem Figure



Answer Figures



- 1. D
- 2. B

Question ID : 9864493835

Status : Answered

Chosen Option : 4

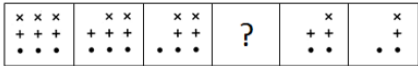
- 3. C
- 4. A

Q.16 उस विकल्प का चयन करें, जो दी गई चित्र श्रृंखला में खाली स्थान को भरने के लिए उपयुक्त है।

Question ID : 9864494212  
 Status : Answered  
 Chosen Option : 3



Select the option that will correctly fit in the blank space in the given figure series.



Ans

- 1.
- 2.
- 3.
- 4.

Q.17 निम्नलिखित में से किस क्षेत्र में सार्वजनिक उपलब्धि के लिए भारत सरकार द्वारा अर्जुन पुरस्कार दिए जाते हैं?

Question ID : 9864492314  
 Status : Answered  
 Chosen Option : 1

The Arjuna Awards given by the Government of India is for public achievement in which of the following fields?

Ans

- 1. साहित्य  
Literature
- 2. गरीबी उन्मूलन  
Poverty Eradication
- 3. खेल  
Sports
- 4. अर्थशास्त्र  
Economics

Q.18 \_\_\_\_\_ की प्रक्रिया में, लोहे को जस्ता की एक कोटिंग द्वारा संरक्षित किया जाता है।  
 In the process of \_\_\_\_\_, the iron is protected by a coating of zinc.

Question ID : 9864493631  
 Status : Answered  
 Chosen Option : 3

Ans

- 1. चिकनाई (greasing)  
greasing

2. मिश्रधातुकरण (alloying)  
alloying
3. गल्वोनाईजेशन (galvanization)  
galvanisation
4. एनोडाईजिंग (anodizing)  
anodising

Q.19 निम्न में से वह कौन सी भिन्न है जो आवर्ती दशमलव नहीं देगे?

The fraction from the ones listed below that will NOT lead to a recurring decimal is:

- Ans  1.  $\frac{8}{56}$
2.  $\frac{6}{56}$
3.  $\frac{4}{56}$
4.  $\frac{7}{56}$

Question ID : 9864493021

Status : Not Attempted and  
Marked For Review

Chosen Option : --

Q.20 संख्या 428693745 में 9 और 5 के स्थानीय मान का अंतर है:

The difference between the place values of 9 and 5 in the number 428693745 is:

- Ans  1. 90995
2. 99995
3. 89995
4. 8995

Question ID : 9864494354

Status : Answered

Chosen Option : 2

Q.21 एक तौबे की तार को मोड़कर एक वर्ग बनाया जाता है, जिसका क्षेत्रफल 121 वर्ग सेंटीमीटर है। यदि इसी तार को मोड़कर एक वृत्त बनाया जाता है, तो वृत्त का क्षेत्रफल कितना होगा? ( $\pi = \frac{22}{7}$  प्रयोग करें)

A copper wire when bent in the form of a square encloses an area of 121 cm<sup>2</sup>. If the same wire is bent into the form of a circle, find the area of the circle: (Use  $\pi = \frac{22}{7}$ )

- Ans  1. 154 वर्ग सेंटीमीटर  
154 cm<sup>2</sup>
2. 153 वर्ग सेंटीमीटर  
153 cm<sup>2</sup>
3. 155 वर्ग सेंटीमीटर  
155 cm<sup>2</sup>
4. 150 वर्ग सेंटीमीटर  
150 cm<sup>2</sup>

Question ID : 9864492471

Status : Answered

Chosen Option : 1

Q.22 ऊपर उठाए गए हथौड़े के पास क्या होता है:

A raised hammer possesses:

Ans

Question ID : 9864493581

Status : Answered

Chosen Option : 4

1. गतिज ऊर्जा  
Kinetic energy
2. यांत्रिक ऊर्जा  
Mechanical energy
3. मांसपेशीय ऊर्जा  
Muscular energy
4. स्थितिज ऊर्जा  
Potential energy

Q.23 यदि  $x^2 + ax + b$  को जब  $(x - 1)$  द्वारा भाग किया जाता है तो 15 शेष बचता है और जब  $x^2 + bx + a$  को  $(x + 1)$  द्वारा भाग किया जाता है तो -1 शेष बचता है।  $a^2 + b^2$  का मान क्या है:

When  $x^2 + ax + b$  is divided by  $(x - 1)$ , the remainder is 15 and when  $x^2 + bx + a$  is divided by  $(x + 1)$ , the remainder is -1, then the value of  $a^2 + b^2$  is:

- Ans  1. 10  
 2. 20  
 3. 8  
 4. 16

Question ID : 9864492997

Status : Not Attempted and  
Marked For Review

Chosen Option : --

Q.24 यदि  $a - \frac{1}{a} = 1$  हो तो  $a^2 + \frac{1}{a^2} = ?$

If  $a - \frac{1}{a} = 1$ , then  $a^2 + \frac{1}{a^2} = ?$

- Ans  1. 1  
 2. 3  
 3. 2  
 4. 4

Question ID : 9864492856

Status : Answered

Chosen Option : 2

Q.25 दी गई युक्ति पर विचार करें और तय करें कि दी हुई पूर्वधारणाओं में से कौन सी अंतर्निहित है।

युक्ति:

शहर में पानी की कमी के कारण, प्राधिकरण ने सभी नागरिकों को अपनी पानी की खपत को 25% कम करने के लिए कहा है।

पूर्वधारणा:

- अधिकांश नागरिक अपनी पानी की खपत को कम कर सकते हैं।
- कई कार्यकर्ता प्राधिकरण द्वारा दी गई इस सलाह का विरोध कर सकते हैं।

Consider the given argument and decide which of the given assumptions is (are) implicit.

Argument:

Due to water crisis in the city, the authority had asked all the citizens to reduce their water consumption by 25%.

Assumptions:

- Many citizens may reduce their water consumption.
- Many activists may protest to this advisory by the authority.

- Ans  1. न तो 1 और न ही 2 अंतर्निहित है।  
Neither 1 nor 2 is implicit.

Question ID : 9864493921

Status : Answered

Chosen Option : 4

- ✓ 2. केवल पूर्वधारणा 1 अंतर्निहित है।  
Only assumption 1 implicit.
- ✗ 3. केवल पूर्वधारणा 2 अंतर्निहित है।  
Only assumption 2 implicit.
- ✗ 4. 1 और 2 दोनों पूर्वधारणाएं अंतर्निहित हैं।  
Both 1 and 2 are implicit.

Q.26 यदि कोई वस्तु त्रिज्या 'r' के वृत्ताकार पथ के चारों ओर जाने में 't' सेकंड का समय लेती है, तो वेग 'v' निम्न में से किसके द्वारा दिया जाता है:

If a body takes 't' seconds to go once round the circular path of radius 'r', the velocity 'v' is given by:

- Ans
- ✗ 1.  $v = \frac{t}{2\pi r}$
- ✓ 2.  $v = \frac{2\pi r}{t}$
- ✗ 3.  $v = \frac{2\pi r^2}{t}$
- ✗ 4.  $v = \frac{\pi r}{2t}$

Question ID : 9864493320

Status : Answered

Chosen Option : 2

Q.27 नोबेल पुरस्कार जीतने वाले एकमात्र भारतीय अर्थशास्त्री कौन हैं?

Who is the only Indian economist to have won the Nobel prize?

- Ans
- ✗ 1. अविनाश दीक्षित  
Avinash Dixit
- ✗ 2. अमित मिश्रा  
Amit Mishra
- ✓ 3. अमर्त्य सेन  
Amartya Sen
- ✗ 4. अभिजीत बनर्जी  
Abhijit Banerjee

Question ID : 9864492158

Status : Answered

Chosen Option : 2

Q.28

Question ID : 9864494129

Status : Answered

Chosen Option : 1

समस्या चित्र (Problem figure) के श्रेणी को उत्तर चित्र (Answer Figures) में से किसी एक उपयुक्त चित्र का चयन कर पूरा करें।

Problem Figure



Answer Figures



समस्या चित्र - Problem Figure

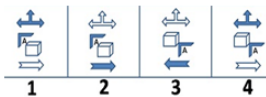
उत्तर चित्र - Answer Figures

Complete the series given in the Problem Figure with an appropriate option from the Answer Figures.

Problem Figure



Answer Figures



Ans  1. 1

2. 4

3. 2

4. 3

Q.29  $\frac{4}{5}$ ,  $\frac{2}{3}$  और  $\frac{5}{7}$  का ल.स. ज्ञात कीजिए।

Find the L.C.M of  $\frac{4}{5}$ ,  $\frac{2}{3}$  and  $\frac{5}{7}$

Ans  1. 25

2. 20

3. 40

4. 30

Question ID : 9864492603

Status : Not Attempted and  
Marked For Review

Chosen Option : --

Q.30 जब हम आवधिक तालिका के समूहों में नीचे जाते हैं तो क्या होता है?

What happens as we go down the group in the periodic table?

Ans  1. शेल की संख्या घट जाती है

The number of shells decreases

2. वैलेंस इलेक्ट्रॉन कम हो जाते हैं

Valence electrons decreases

Question ID : 9864493054

Status : Answered

Chosen Option : 3

- ✓ 3. शेल की संख्या बढ़ जाती है  
The number of shells increases
- ✗ 4. परमाण्विक आकार कम हो जाता है  
Atomic size decreases

Q.31

1	?	3
---	---	---

लुप्त अंक ज्ञात कीजिए, यदि इसके गुणक 11 और 13 हैं।

1	?	3
---	---	---

Find the missing digit if it has 11 and 13 as factors?

Ans

- ✗ 1. 2
- ✗ 2. 6
- ✗ 3. 8
- ✓ 4. 4

Question ID : 9864492564

Status : Answered

Chosen Option : 4

Q.32 दिए गए प्रश्न को ध्यानपूर्वक पढ़ें और बताएँ कि इसका का उत्तर देने के लिए निम्नलिखित कथनों में से कौन पर्याप्त है/हैं।

प्राकृतिक संख्या X, Y, Z, U और V में से कौनसी सम संख्या है?

कथन:

- X, Y, Z, U और V क्रमिक संख्या हैं।
- Z विषम संख्या है।

Consider the given question and decide which of the following statements is sufficient to answer the question.

Which of these natural numbers X, Y, Z, U, and V are even numbers?

Statements:

- X, Y, Z, U, and V are consecutive numbers.
- Z is an odd number.

Ans

- ✓ 1.

कथन 1 और कथन 2 एक साथ दोनों पर्याप्त हैं

Both statement 1 and 2 together are sufficient

- ✗ 2.

केवल कथन 2 पर्याप्त है जबकि केवल कथन 1 अपर्याप्त है

Statement 2 alone is sufficient while statement 1 alone is insufficient

- ✗ 3.

केवल कथन 1 पर्याप्त है जबकि केवल कथन 2 अपर्याप्त है

Statement 1 alone is sufficient while statement 2 alone is insufficient

- ✗ 4.

ना कथन 1 और ना ही कथन 2 पर्याप्त है

Neither statement 1 nor 2 is sufficient

Question ID : 9864493816

Status : Answered

Chosen Option : 4

Q.33 मानव नरों में मूत्र और वीर्य के प्रवाह के लिए एक ही अनाग है जिसे \_\_\_\_\_ कहते हैं।

\_\_\_\_\_ forms a common passage for both urine and sperms in human males.

Ans

- ✗ 1. डिंबवाहिनी  
Oviduct

Question ID : 9864493498

Status : Answered

Chosen Option : 1

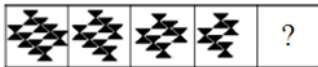
- 2. मुत्रवाहिनी  
Ureter
- 3. मूत्रमार्ग  
Urethra
- 4. शुक्रवाहिका  
Vas deferens

Q.34 उस विकल्प चित्र का चयन करें जो निम्न चित्र सीरिज में आगे आएगा।



A B C D

Select the option that would come next in the following figure series.



A B C D

- Ans
- 1. C
  - 2. B
  - 3. D
  - 4. A

Question ID : 9864494380

Status : Answered

Chosen Option : 1

Q.35 एक व्यक्ति अपनी सामान्य चाल के  $\frac{4}{5}$  चाल से चलने पर 15 मिनट देरी से पहुँचता है। उसी दूरी को तय करने में उसके द्वारा लिया जाने वाला सामान्य समय कितना है?

Travelling at  $\frac{4}{5}$ th of his usual speed, a man is 15 minutes late. What is his usual time to cover the same distance?

- Ans
- 1. 15 मिनट  
15 minutes
  - 2. 1 घंटा  
1 hour
  - 3. 75 मिनट  
75 minutes
  - 4. 45 मिनट  
45 minutes

Question ID : 9864492510

Status : Answered

Chosen Option : 3

Q.36 दांतों में सड़न शुरू हो जाती है जब मुँह का पी.एच. (pH) \_\_\_\_\_ से कम होता है।

Tooth decay starts when the pH of the mouth is lower than:

Ans

Question ID : 9864493069

Status : Not Attempted and  
Marked For Review

1. 5.7

2. 5.5

3. 5.6

4. 5.4

Chosen Option :--

Q.37 उस समय का चयन करें जो किसी घड़ी में 9: 30 की सही दर्पण छवि को दर्शाए।

Select the time that would depict the correct mirror image of 9:30 on a clock.

Ans  1. 2:30

2. 6:30

3. 7:30

4. 4:30

Question ID : 9864494338

Status : Answered

Chosen Option : 1

Q.38 दिए गए वक्तव्य पर विचार करें और तय करें कि दी गई मान्यताओं में से कौन सी निहित है (हैं)।

वक्तव्य:

श्याम गीता को कहता है, "श्रीलंका तक पहुंचने का तरीका हवा और पानी के माध्यम से है"।

मान्यताएँ:

- गीता श्रीलंका की यात्रा करना पसंद करती है।
- श्याम को लोगों को सलाह देने का शौक है।

Consider the given statement and decide which of the given assumption(s) is (are) implicit.

Statement:

Shyam tells Gita, "The ways to reach Sri Lanka is through air and water".

Assumptions

- Gita likes to travel to Sri Lanka.
- Shyam is fond of advising people.

Ans  1 और 2 दोनों निहित हैं।

1. Both assumptions 1 and 2 are implicit.

2. 1 और 2 दोनों निहित नहीं हैं।

2. Neither assumption 1 nor 2 is implicit.

3. केवल मान्यता 2 निहित है।

3. Only assumption 2 is implicit.

4. केवल मान्यता 1 निहित है।

4. Only assumption 1 is implicit.

Question ID : 9864494220

Status : Answered

Chosen Option : 4

Q.39 अमेरिकन ब्रॉडकास्टिंग कारपोरेशन के टीवी कार्यक्रम 'क्वांटिको' में कौन सी प्रसिद्ध भारतीय अभिनेत्री ने अभिनय किया है?

Who is the famous Indian actress who stars in the 'Quantico' TV series on American Broadcasting Corporation?

Ans  1. आलिया भट्ट

1. Alia Bhatt

Question ID : 9864492301

Status : Answered

Chosen Option : 1

2. दीपिका पादुकोण  
Deepika Padukone
3. प्रियंका चोपड़ा  
Priyanka Chopra
4. मलाइका अरोरा  
Malaika Arora

Q.40 दिए गए प्रश्न पर विचार करें और निर्णय लें कि प्रश्न का उत्तर देने के लिए निम्न में से कौन सा कथन पर्याप्त है।

स्वाती नमिता से कैसे संबंधित है?

वक्तव्य:

- स्वाती का पति, नमिता की मां का इकलौता पुत्र है।
- स्वाती का भाई और नमिता का पति चचेरे भाई/ ममेरे भाई (cousin) है।

Consider the given question and decide which of the following statements is sufficient to answer the question.

How Swathi is related to Namitha?

Statements:

- Swathi's husband is the only son of Namitha's mother.
- Swathi's brother and Namitha's husband are cousins.

Ans  1.

दिए गए प्रश्न का उत्तर देने के लिए 1 और 2 दोनों पर्याप्त हैं।

Both I and II are sufficient to answer the question.

2.

दिए गए प्रश्न का उत्तर देने के लिए 2 अकेला पर्याप्त है, जबकि 1 अकेला पर्याप्त नहीं है।

II alone is sufficient while I alone is not sufficient to answer the question.

3.

दिए गए प्रश्न का उत्तर देने के लिए या तो 1 या 2 पर्याप्त है।

Either I or II is sufficient to answer the question.

4.

दिए गए प्रश्न का उत्तर देने के लिए 1 अकेला पर्याप्त है, जबकि 2 अकेला पर्याप्त नहीं है।

I alone is sufficient while II alone is not sufficient to answer the question.

Question ID : 9864494277

Status : Answered

Chosen Option : 1

Q.41 दीपाली ने कप का एक सेट ₹ 375 में खरीदा लेकिन बाद में इसे पुराना स्टॉक समाप्त करने के लिए ₹ 345 में बेचना पड़ा। उसे कितने प्रतिशत नुकसान हुआ है?

Dipali bought a set of cups for ₹ 375, but then had to sell it later to clear old stocks for ₹ 345. What is the percentage of loss that she incurred?

Ans  1. 14

2. 7

3. 16

4. 8

Question ID : 9864492989

Status : Answered

Chosen Option : 4

Q.42 यदि  $123 \times 356 = 43788$  हो तो  $1.23 \times 0.356$  का मान क्या होगा?

If  $123 \times 356 = 43788$ , then  $1.23 \times 0.356 = ?$

Ans  1. 437.88

2. 4.3788

Question ID : 9864492740

Status : Answered

Chosen Option : 3

✓ 3. 0.43788

✗ 4. 0.043788

Q.43 नीचे दिये गए कथन को सत्य मानते हुए यह ज्ञात करें कि कथन के आधार पर कौन सा निष्कर्ष निश्चित रूप से निकाला जा सकता है।

Question ID : 9864494118

Status : Answered

Chosen Option : 3

कथन:

लोगों की शिकायत है कि त्योहारों के मौसम में बस टिकट उपलब्ध नहीं होते हैं।

निष्कर्ष:

1. लोगों को सलाह देनी चाहिए कि त्योहारों के मौसम में वे यात्रा ना करें।
2. सरकार को चाहिए कि वो त्योहारों के मौसम में ज्यादा से ज्यादा बसों की व्यवस्था करे।

Consider the given statement true and decide which of the given conclusions can definitely be drawn from the given statements.

Statement:

People complain that bus tickets are not available during festival seasons.

Conclusions:

1. People should be advised not to travel during festival seasons.
2. The government should bring in more busses during festival seasons.

Ans

✗ 1. निष्कर्ष 1 तथा 2 दोनों अनुसरण करते हैं।

Both 1 and 2 follow.

✗ 2.

ना तो निष्कर्ष 1 और ना ही निष्कर्ष 2 अनुसरण करते हैं।

Neither 1 nor 2 follows.

✓ 3. सिर्फ निष्कर्ष 2 अनुसरण करता है।

Only conclusion 2 follows.

✗ 4. सिर्फ निष्कर्ष 1 अनुसरण करता है।

Only conclusion 1 follows.

Q.44

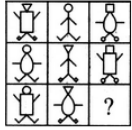
Question ID : 9864494033

Status : Answered

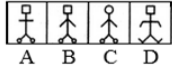
Chosen Option : 3

प्रश्न चित्र (Problem figure) को उत्तर चित्रों (Answer Figures) में से उपयुक्त विकल्प के साथ पूरा करें।

Problem Figures




Answer Figures

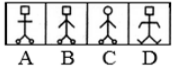


Complete the Problem Figure with an appropriate option from the Answer Figures.

Problem Figures



Answer Figures



- Ans
- 1. C
  - 2. D
  - 3. B
  - 4. A

Q.45  $w, x, y$  और  $z$  आरोही क्रम में व्यवस्थित चार संख्याएं हैं। इनमें से तीन न्यूनतम संख्याओं का औसत 18 है जबकि तीन अधिकतम संख्याओं का औसत 22 है। आंकड़ों का परिसर क्या है?

Four numbers, when arranged in ascending order, are  $w, x, y$  and  $z$ . The average of the smallest three numbers is 18, while the average of the largest three was 22. What is the range of the data?

- Ans
- 1. 10
  - 2. 12
  - 3. 13
  - 4. 11

Question ID : 9864492718

Status : Answered

Chosen Option : 2

Q.46 निम्नलिखित में से कौन सा एक एम्फोटेरिक ऑक्साइड है ?

Which of the following is an amphoteric oxide?

- Ans
- 1. एल्युमिनियम ऑक्साइड  
Aluminium oxide
  - 2. आयरन (II) ऑक्साइड  
Iron (II) oxide
  - 3. मैग्नीशियम ऑक्साइड  
Magnesium oxide
  - 4. कार्बन डाइऑक्साइड  
Carbon dioxide

Question ID : 9864493312

Status : Not Attempted and  
Marked For Review

Chosen Option : --

Q.47 मिश्रण में रेत के साथ बजरी का अनुपात 17 : 8 है जबकि बजरी और सीमेंट का अनुपात 6 : 17 है। मिश्रण में रेत के साथ सीमेंट का क्या अनुपात है?  
The ratio of sand to gravel in a mixture is 17 : 8 while that between gravel and cement is 6 : 17. What is the ratio of sand to cement in the mixture?

Question ID : 9864492986

Status : Answered

Chosen Option : 4

- Ans
- 1. 17 : 17
  - 2. 289 : 48
  - 3. 8 : 6
  - 4. 3 : 4

Q.48 3249 का वर्गमूल कितना है:

The square root of 3249 is:

Question ID : 9864492883

Status : Answered

Chosen Option : 3

- Ans
- 1. 63
  - 2. 59
  - 3. 57
  - 4. 67

Q.49 दिए गए प्रश्न को ध्यानपूर्वक पढ़ें और बताएँ कि इसका का उत्तर देने के लिए निम्नलिखित कथनों में से कौन पर्याप्त है/हैं।

X, Y और Z की औसत मजदूरी क्या है?

कथन:

1. Y का वेतन (X+Z) का आधा है
2. X और Y एक साथ Z से ₹40 अधिक कमाते हैं और Z ₹500 कमाता है

Consider the given question and decide which of the following statements is sufficient to answer the question.

What is the average daily wage of X, Y and Z?

Statements:

1. Y's salary is half of (X+Z)
2. X and Y together earn ₹ 40 more than Z and Z earns ₹ 500

- Ans
- 1. कथन 1 और कथन 2 दोनों पर्याप्त हैं  
Both 1 and 2 are sufficient
  - 2. ना कथन 1 या कथन 2 पर्याप्त है  
Neither 1 nor 2 is sufficient
  - 3. केवल कथन 1 पर्याप्त है जबकि केवल कथन 2 अपर्याप्त है  
1 alone is sufficient while 2 alone is insufficient
  - 4. केवल कथन 2 पर्याप्त है जबकि केवल कथन 1 अपर्याप्त है  
2 alone is sufficient while 1 alone is insufficient

Question ID : 9864493775

Status : Answered

Chosen Option : 4

Q.50 एक प्रतिरोधक में से विद्युत् धारा I प्रवाहित होती है। एक स्रोत प्रतिरोधक में V का विभवांतर बनाए रखता है। समय t में स्रोत द्वारा आपूर्ति की गई ऊर्जा की मात्रा कितनी होगी:

A current I flows through a resistor. A source maintains a potential difference of V across the resistor. The energy supplied by the source in time t is:

Question ID : 9864493165

Status : Answered

Chosen Option : 4

- Ans
- 1.  $VIt^2$
  - 2.  $VI$
  - 3.  $VIt$

## X 4. VI/t

Q.51 दी गई युक्ति पर विचार करें और तय करें कि दी हुई पूर्वधारणाओं में से कौन सी निहित है।

युक्ति:

सभी लड़कियों को उपन्यास पढ़ना पसंद होता है।

पूर्वधारणा:

- केवल उपन्यास ही पठनीय होता है।
- किसी भी लड़की को कुछ और पढ़ना पसंद नहीं होता।

Consider the given argument and decide which of the given assumptions is (are) implicit.

Argument:

All girls love reading novels.

Assumptions:

- Novels are the only reading materials.
- No girl loves to read other materials.

Ans

X 1. 1 और 2 दोनों पूर्वधारणाएं निहित हैं।

Both assumptions 1 and 2 are implicit.

X 2. केवल पूर्वधारणा 1 निहित है।

Only assumption 1 is implicit.

✓ 3. न तो 1 और न ही 2 निहित है।

Neither assumption 1 nor 2 is implicit.

X 4. केवल पूर्वधारणा 2 निहित है।

Only assumption 2 is implicit.

Question ID : 9864493934

Status : Answered

Chosen Option : 4

Q.52 दी गई संबंधित जोड़ी के आधार पर अनुपस्थित शब्द जोड़ी चुनें।

Buy : bought :: \_\_\_\_\_

Select the missing word pair based on the given related pair.

Buy : bought :: \_\_\_\_\_

Ans X 1. Tore : Tear

X 2. Ran : Run

X 3. Sang : Sing

✓ 4. Shut : Shut

Question ID : 9864493989

Status : Not Attempted and  
Marked For Review

Chosen Option :--

Q.53

Question ID : 9864493841

Status : Not Attempted and  
Marked For Review

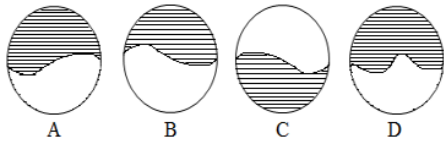
Chosen Option :--

प्रश्न आकृति (erugif melborP)का जल में बनने वाला सही प्रतिबिंब चुनें।

Problem Figure



Answer Figure

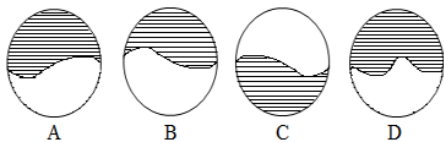


Choose the correct water image of the given problem figure.

Problem Figure



Answer Figure



- Ans  1. B  
 2. A  
 3. C  
 4. D

Q.54 नीचे दिए गए समीकरण में एक ही तरफ किन दो अंकों को प्रतिस्थापित कर दिया जाए ताकि समीकरण का वामहस्त और दामहस्त दोनों बराबर हो जाए।

$$5 + 3 \times 6 - 4 \div 2 = 4 \times 3 - 10 \div 2 + 7$$

In the given equation, LHS = RHS only when we interchange numbers \_\_\_\_\_ on the same side.

$$5 + 3 \times 6 - 4 \div 2 = 4 \times 3 - 10 \div 2 + 7$$

- Ans  1. 5 और 2  
 5 and 2  
 2. 3 और 7  
 3 and 7  
 3. 6 और 4  
 6 and 4  
 4. 4 और 7  
 4 and 7

Question ID : 9864494096

Status : Answered

Chosen Option : 1

फरवरी 2018 से, तेलंगाना के मुख्यमंत्री कौन हैं, जो तेलंगाना के पहले मुख्यमंत्री भी हैं?  
As of February 2018, who is the Chief Minister of Telangana, who is also the first Chief Minister of Telangana?

Status : Answered

Chosen Option : 2

Ans

- ✓ 1. के. चंद्रशेखर राव  
K Chandrasekhar Rao
- ✗ 2. कडियम श्रीहरी  
Kadiyam Srihari
- ✗ 3. टी. राजैया  
T Rajaiah
- ✗ 4. चंद्रबाबू नायडू  
Chandrababu Naidu

Q.56 प्रारंभिक भारतीय दार्शनिक के अनुसार, प्रत्येक वस्तु \_\_\_\_ मूल तत्वों से बनी है।

According to an early Indian philosopher everything is made up of \_\_\_\_ basic elements.

Ans

- ✗ 1. 2
- ✗ 2. 4
- ✗ 3. 3
- ✓ 4. 5

Question ID : 9864493327

Status : Not Answered

Chosen Option : --

Q.57 जब वस्तु को P और F के बीच रखा जाता है, तब एक अवतल दर्पण द्वारा बनाई गई छवि की स्थिति का पता लगाएं?

Find the position of the image formed by a concave mirror when the object is placed between P and F?

Ans

- ✗ 1. अनंत पर  
At infinity
- ✗ 2. F और C के बीच  
Between F and C
- ✓ 3. दर्पण के पीछे  
Behind the mirror
- ✗ 4. C के बाद  
Beyond C

Question ID : 9864493564

Status : Not Answered

Chosen Option : --


Q.58

Question ID : 9864493919


Status : Not Answered

Chosen Option : --

यदि दी गई आकृतियों में से प्रत्येक का केवल एक बार प्रयोग कर तीन समूह बन सकते हैं तो वह समूह \_\_\_\_\_ होंगे।



If three groups could be formed using the given figures only once, these groups would be \_\_\_\_\_.



- Ans
- 1. (1,5,8), (2,4,7) और (3,6,9)  
(1,5,8), (2,4,7) and (3,6,9)
  - 2. (1,5,7), (2,4,9) और (3,6,8)  
(1,5,7), (2,4,9) and (3,6,8)
  - 3. (1,5,7), (2,6,8) और (3,4,9)  
(1,5,7), (2,6,8) and (3,4,9)
  - 4. (1,5,7), (2,4,8) और (3,6,9)  
(1,5,7), (2,4,8) and (3,6,9)

Q.59 एक एल्कोहल का क्वथनांक  $78^{\circ}\text{C}$  है। केल्विन पैमाने पर तापमान कितना होगा?

The boiling point of an alcohol is  $78^{\circ}\text{C}$ . What is the temperature in Kelvin scale?

- Ans
- 1. 78 K
  - 2. 341 K
  - 3. 373 K
  - 4. 351 K

Question ID : 9864493128

Status : Not Answered

Chosen Option : --

Q.60 एक रेलगाड़ी काज़ीपेट से प्रातः 5 बजे चलती है और दोपहर 3 बजे बेंगलोर पहुंचती है। एक अन्य रेलगाड़ी बंगलौर से प्रातः 7 बजे चलती है और सांय 5 बजे काज़ीपेट पहुंचती है। दोनों रेलगाड़ियाँ आपस में कब मिलती हैं? मान लीजिए दोनों रेलगाड़ियाँ एक समान चाल से चल रही हैं।

A Train leaves Kazipet at 5 a.m. and reaches Bangalore at 3 p.m. Another train leaves Bangalore at 7 a.m. and reaches Kazipet at 5 p.m. When do the two trains meet? Assume that the trains travels at equal uniform speeds.

- Ans
- 1. दोपहर 1  
1 p.m.
  - 2. दोपहर 12  
12 noon
  - 3. प्रातः 11  
11 a.m.
  - 4. प्रातः 10  
10 a.m.

Question ID : 9864492570

Status : Not Answered

Chosen Option : --

Q.61 ऊतक क्या होता है ?

What is a tissue?

Ans  1.

वे कोशिकाएँ जो मूल रूप से समान होती हैं, परन्तु दिखने और कार्य करने में भिन्न होती हैं  
Cells which are similar in origin, but dissimilar in form and function

2.

वे कोशिकाएँ जो मूल रूप से भिन्न होती हैं, परन्तु दिखने और कार्य करने में समान होती हैं  
Cells which are dissimilar in origin, but are similar in form and function

3.

वे कोशिकाएँ जो मूल रूप से, दिखने में और कार्य करने में भिन्न होती हैं  
Cells which are dissimilar in origin, form and function

4.

वे कोशिकाएँ जो मूल रूप से, दिखने में और कार्य करने में समान होती हैं  
Cells which are similar in origin, form and function

Question ID : 9864493175

Status : Not Answered

Chosen Option : --

Q.62 एक कोड में, यदि UNGIMMICKY को MIGNUYKCIM लिखा जाता है तो इसी कोड में COMPLEXITY को कैसे लिखा जाएगा?

If in a certain code, UNGIMMICKY is written as MIGNUYKCIM, then how will COMPLEXITY be written as in the same code?

Ans  1. LPOMCYTIXE

2. LPMOOCYTIXE

3. LPMOYCTIXE

4. LPMOCYTIXE

Question ID : 9864494215

Status : Not Answered

Chosen Option : --

Q.63 एक साथ कार्य करते हुए पाइप A और B एक खाली टैंक को 10 घंटे में भर सकता है।

उन्होंने 4 घंटे तक एक साथ काम किया और फिर B ने काम करना बंद कर दिया तथा A ने कार्य अंत तक जारी रखा। टैंक को भरने में कुल 13 घंटे लग गए। A द्वारा अकेले खाली टैंक को भरने में कितना समय लगेगा?

Working together, pipes A and B can fill an empty tank in 10 hours. They worked together for 4 hours and then B stopped and A continued filling the tank till it was full. It took a total of 13 hours to fill the tank. How long would it take A to fill the empty tank alone?

Ans  1. 15 घंटे

15 hours

2. 13 घंटे

13 hours

3. 16 घंटे

16 hours

4. 12 घंटे

12 hours

Question ID : 9864492972

Status : Not Answered

Chosen Option : --

Q.64 फरवरी 2018 से, हैदराबाद की आईपीएल टीम 'सन राइजर्स हैदराबाद' का मालिक कौन है?  
As of February 2018, who owns the Hyderabad-based IPL team 'Sun Risers Hyderabad'?

Ans  1. डेक्कन क्रॉनिकल न्यूज़पेपर

Deccan Chronicle Newspaper

2. कलानिधि मारन

Kalanidhi Maran

Question ID : 9864492159

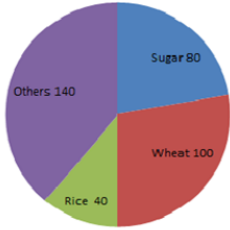
Status : Not Answered

Chosen Option : --

3. चंद्रबाबू नायडू  
Chandrababu Naidu

4. चिरंजीवी  
Chiranjeevi

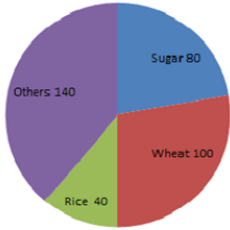
Q.65 निम्नलिखित वृत्त चार्ट/पाई चार्ट में कुछ फसलों के वार्षिक उत्पादन (टन में) दिए गए हैं।



शुगर -अन्य, गन्ना -शक्कर, गेहूँ -Wheat, चावल -Rice

यदि कुल उत्पादन 9000 टन था तो चावल के उत्पादन की मात्रा टनों में बताएं।

The given pie chart represents the annual yield of certain crops in tons.



If the total production is 9000 tons, then the yield of rice is \_\_\_\_\_ tons.

- Ans
1. 3000
2. 1000
3. 2000
4. 1500

Q.66 बंगाल का पहला विभाजन वर्ष \_\_\_\_\_ में हुआ था।

The first Partition of Bengal took place in the year \_\_\_\_\_.

- Ans
1. 1906 ईसवी  
1906 AD
2. 1903 ईसवी  
1903 AD
3. 1904 ईसवी  
1904 AD
4. 1905 ईसवी  
1905 AD

Question ID : 9864494101

Status : Not Answered

Chosen Option : --

Question ID : 9864492103

Status : Not Answered

Chosen Option : --

Q.67 एक प्रकार के अलैंगिक प्रजनन को पहचानें जिसमें जड़, तने और पत्तियों जैसे पौधे के कुछ हिस्सों के माध्यम से प्रजनन शामिल है?

Identify a type of asexual reproduction which involves reproduction through parts of a plant such as roots, stem and leaves?

Ans

1. मुकलन (Budding)

1. Budding

2.

वानस्पतिक प्रजनन (Vegetative propagation)

Vegetative propagation

3. विखंडन (Fragmentation)

3. Fragmentation

4. अणुओं का विभाजन (Fission)

4. Fission

Question ID : 9864493057

Status : Not Answered

Chosen Option : --

Q.68 किस भारतीय लेखक ने 'थिंग्स टू लीव बिहाइंड' पुस्तक में कुमाऊं की पहाड़ियों में जीवन का वर्णन किया है?

Which Indian author has chronicled the life in the Kumaon hills in the book 'Things to Leave Behind'?

Ans

1. शशि थरूर

1. Shashi Tharoor

2. अनोष ईरानी

2. Anosh Irani

3. नमिता गोखले

3. Namita Gokhale

4. विक्रम सेठ

4. Vikram Seth

Question ID : 9864492312

Status : Not Answered

Chosen Option : --

Q.69 निम्नलिखित अभिव्यक्ति में उन चिहनों की संख्या \_\_\_\_\_ है जिनके आगे अक्षर है और पीछे संख्या नहीं है।

A\$1%MB#6&NC=3!OD+KP

The number of symbols that are preceded by a letter and not followed by a number in the following expression is \_\_\_\_\_.

A\$1%MB#6&NC=3!OD+KP

Ans  1. 3

2. 4

3. 1

4. 2

Question ID : 9864493974

Status : Not Answered

Chosen Option : --

Q.70 अपने बाएं हाथ में पेन को पकड़ कर एक व्यक्ति अपना प्रतिबिंब शीशे में देखता है कि पेन दाएं हाथ में है। यह निम्न में से किस घटना के कारण है?

A person holding a pen in his left hand sees his reflection in the mirror holding the pen in his right hand. This is due to which of the following phenomena?

Question ID : 9864493403

Status : Not Answered

Chosen Option : --

Ans

1. विभक्त प्रतिबिंब  
Diffused reflection

2.

कुल आंतरिक प्रतिबिंब (Total internal reflection)

Total internal reflection

3. पार्श्व व्युत्क्रमण (Lateral inversion)  
Lateral inversion

4. अपवर्तन  
Refraction

Q.71 मास  $m$  के साथ चलती हुई वस्तु की गतिज ऊर्जा ( $E_k$ ) का मूल्य क्या होगा यदि इसकी गति को  $v$  से बढ़ाकर  $2v$  तक दोगुना किया जाता है?

What will be the value of the kinetic energy ( $E_k$ ) of a moving body with mass  $m$ , if its speed is doubled from  $v$  to  $2v$ ?

Question ID : 9864493422

Status : Not Answered

Chosen Option : --

Ans

1.  $\frac{1}{2} E_k$

2.  $\frac{1}{2} E_k$

3.  $4E_k$

4.  $4E_k$

3.  $E_k$  में कोई परिवर्तन नहीं होगा।

There will be no change in  $E_k$

4.  $2E_k$

4.  $2E_k$

Q.72 किसी संख्या के 28% का मान 35 है। संख्या क्या है?

28% of a number is 35. What is the number?

Question ID : 9864492706

Status : Not Answered

Chosen Option : --

Ans

1. 108

2. 120

3. 80

4. 125

Q.73 यदि कंडक्टर का प्रतिरोध दोगुना हो जाता है तो विद्युत् धारा आधी हो जाती है। यह किस कारण से होता है:

If the resistance of a conductor is doubled, the current gets halved. This is because:

Question ID : 9864493326

Status : Not Answered

Chosen Option : --

Ans

1.  $I = V - R$

2.  $I = \frac{V}{R}$

3.  $I = \frac{R}{V} n$

4.  $I = VR$

Q.74 भारत के किस उत्तर-पूर्वी राज्य ने 2022 में 39वें राष्ट्रीय खेलों की मेजबानी की जिम्मेदारी ली है?

Which north-eastern state of India has signed up to host the 39th National Games in the year 2022?

Question ID : 9864492430

Status : Not Answered

Chosen Option : --

Test

Prime

By Adda247

# Previous Year Papers PDF

PRACTICE MORE, SCORE HIGHER!



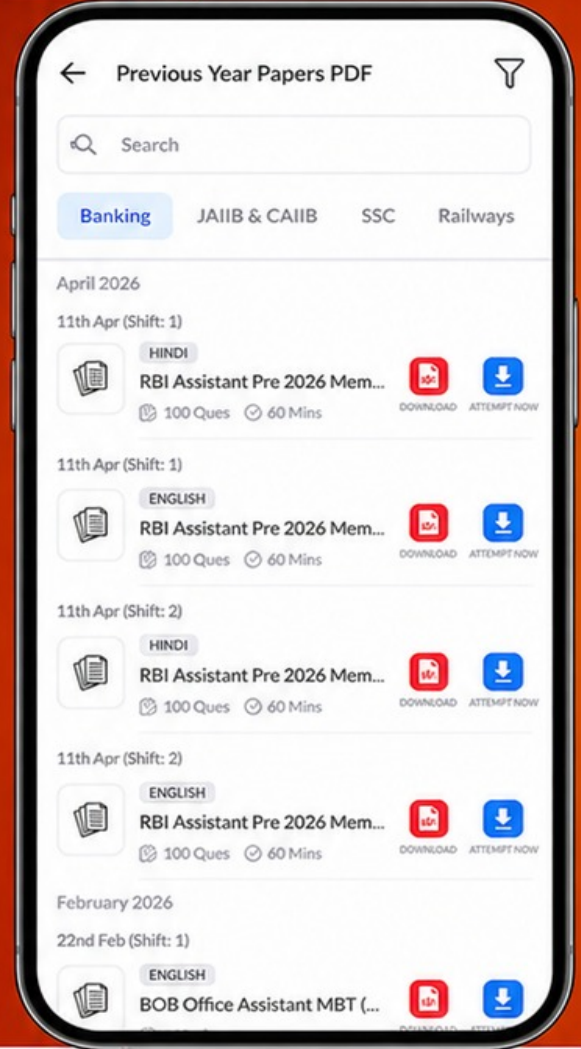
Free  
**25,000+**  
PDF's

High-Quality | Exam-Wise | Updated Regularly

ATTEMPT AS  
**MOCK**



Turn PDFs into real exam experience.  
Analyze. Improve. Succeed.



Topic-wise & Exam-wise PDFs



Download & Study Offline



Attempt as Mock & Track Score



Smart Analysis & Performance

AVAILABLE IN



Banking



SSC



Railway



Teaching



UGC



Agriculture



Nursing



Bihar



UP



Punjab



WB



Odisha



TN



AP & Telangana



Haryana



DOWNLOAD THE APP



Ans

- ✓ 1. मेघालय  
Meghalaya
- ✗ 2. मिजोरम  
Mizoram
- ✗ 3. मणिपुर  
Manipur
- ✗ 4. त्रिपुरा  
Tripura

Q.75 ईसाई धर्म में सबसे प्रसिद्ध चर्चों में से एक, सेंट पीटर्स बेसिलिका किस शहर में स्थित है?

In which city is St. Peter's Basilica, one of the most famous churches in Christianity, located?

Ans

- ✓ 1. मैड्रिड (Madrid)  
Madrid
- ✗ 2. लिस्बॉन (Lisbon)  
Lisbon
- ✗ 3. पीसा (Pisa)  
Pisa
- ✗ 4. वेटिकन (Vatican)  
Vatican

Question ID : 9864492132

Status : Not Answered

Chosen Option : --