

DO NOT OPEN THIS BOOKLET UNTIL YOU ARE ASKED TO DO SO.

TEST BOOKLET SERIES

TEST BOOKLET

Time allowed : 90 Minutes

Full marks : 85

Answer *all* the questions.

All questions carry 1 mark each.






008138

Serial No.

Roll No.

B

উত্তর লেখার পূর্বে নিম্নলিখিত নির্দেশাবলী ভাল করে পড়ুননির্দেশাবলী

- প্রশ্ন-পুস্তিকাতে 85টি Multiple Choice Answer Type প্রশ্ন দেওয়া আছে। নির্দেশ পাওয়ার পর প্রশ্ন-পুস্তিকার সব পৃষ্ঠা খুলে, সব পৃষ্ঠা/প্রশ্ন পর পর আছে কিনা বা ছাপা/ছেঁড়া/পুনরাবৃত্তি আছে কিনা দেখে নিন। যদি প্রশ্ন-পুস্তিকা এবং আপনাকে দেওয়া OMR উত্তরপত্রে কোথাও কোনো ত্রুটি থাকে সঙ্গে সঙ্গে পরীক্ষা তত্ত্বাবধায়ককে জানান এবং বদলে নিন।
- নির্দেশ পাওয়ার পর, OMR উত্তরপত্রে আপনার নিজের সম্বন্ধে যে সাধারণ তথ্যগুলি জানতে চাওয়া হয়েছে তা পূরণ করুন। উত্তরপত্রের 6 ক্রমিক সংখ্যায় প্রদত্ত ঘরে (BOX-এ) রোল নম্বর লিখুন এবং তার অনুরূপ বৃত্তগুলিকে ভরাট করুন। আপনি যদি নির্দেশমত উত্তরপত্রে বিশদ তথ্যাদি এবং 6 ক্রমিক সংখ্যায় অনুরূপ বৃত্তগুলিকে ভরাট করতে ব্যর্থ হন এবং এর পরিণামে আপনার উত্তরপত্রের মূল্যায়নের ক্ষেত্রে যদি কোনো অসুবিধে হয় তার জন্যে ব্যক্তিগতভাবে আপনি সম্পূর্ণভাবে দায়ী থাকবেন।
- OMR উত্তরপত্রে যে 'Bar Code' ছাপা আছে তাতে কোনো দাগ দেওয়া বা কোনো বিকৃতি ঘটানো যাবে না; অন্যথায় প্রার্থীর প্রার্থীপদ বাতিল হয়ে যাবে। OMR উত্তরপত্রটি ভাঁজ করবেন না বা তাতে অথবা অন্য কোনো দাগ দেবেন না।
- প্রশ্ন-পুস্তিকার প্রত্যেক প্রশ্নের সঙ্গে 4টি করে উত্তর দেওয়া আছে। উত্তরগুলি A, B, C ও D এই 4টি ইংরেজি বর্ণ দিয়ে চিহ্নিত করা আছে। প্রতিটি প্রশ্ন মন দিয়ে পড়ুন এবং আপনার মতে 4টি উত্তরের মধ্যে সঠিক উত্তরটি বাছুন। OMR উত্তরপত্রে প্রতিটি প্রশ্নের ক্রমিক সংখ্যা অনুসারে নির্দিষ্ট বৃত্তটি সম্পূর্ণ গাঢ় করে ভরাট করুন। উত্তর চিহ্নিত করার জন্য কেবলমাত্র কালো/নীল কালির বল পয়েন্ট পেন (Black/Blue Ink Ball Point Pen) ব্যবহার করুন।
- কোনো একটি নির্দিষ্ট প্রশ্নের উত্তর হিসাবে যদি উত্তরপত্রে একাধিক বৃত্ত ভরাট করা হয় তাহলে তা ভুল উত্তর হিসাবে পরিগণিত হবে। যদি কোনো প্রশ্নে 'B' সঠিক উত্তর হয়, তাহলে নিম্নে প্রদর্শিত উপায়ে চিহ্নিত করুন :
সঠিক পদ্ধতি : 
ভুল পদ্ধতি : 




- প্রশ্ন-পুস্তিকার শেষের ফাঁকা জায়গা প্রয়োজনে আপনার খসড়া কাজের (Rough Work) জন্য ব্যবহার করতে পারেন। পাতাটি প্রশ্ন-পুস্তিকা থেকে ছিঁড়ে ফেলবেন না।
- পরীক্ষার পর পরীক্ষা তত্ত্বাবধায়কের হাতে আপনার OMR উত্তরপত্রটি জমা দেবেন। প্রশ্ন-পুস্তিকাটি আপনার কাছে রেখে দেবেন।
- উত্তরপত্রটির পরিকল্পনা করা হয়েছে কম্পিউটারের মাধ্যমে মূল্যায়নের উদ্দেশ্যে। উপরের নির্দেশাবলী এবং OMR উত্তরপত্রে প্রদর্শিত নির্দেশাবলী যথাযথভাবে অনুসরণ না করলে এই মূল্যায়নের কাজ দুরূহ হয়ে উঠবে। এই নির্দেশাবলী পূর্ণভাবে অনুসৃত না হলে পরিণামে চূড়ান্ত ক্ষতি পরীক্ষার্থীরই হবে।
- কোনো পরীক্ষার্থীর মোবাইল ফোন, ক্যালকুলেটর অথবা কোনো প্রকারের ইলেকট্রনিক্স গ্যাজেট ব্যবহার করার অনুমতি নেই।
- Negative Marking** আছে। প্রতি 3টি ভুল উত্তরের জন্য 1 নম্বর কাটা যাবে।

[Please Turn Over]

**Test
Prime**

By Adda247

ALL EXAMS, ONE SUBSCRIPTION



Test. Analyze. Improve. Repeat.



Don't just *prepare*. *Perform*.

Test Prime — built only for mock tests.



1,50,000+
Mock Tests



25,000+
Previous Year Papers



800+
Exam Covered



500% Refund
on Selection



5 lakh+
Free Quizzes



Daily
Free PDFs



Job Alerts
Stay Updated

- Multilingual
- Detailed Solution
- Strong and Weak Areas



**All India
Rankings**

Compete with lakhs.
Rank. Improve. Repeat.



← Adda247 test prime

Rating ▾

Editors' choice

New



Adda247 Test Prime
Adda Education • Education
Installed



DOWNLOAD THE APP



PART I: ENGLISH

Total Marks : 25

In the following question, out of the four alternatives, choose the word which best expresses the meaning of the given word:

1. Accede
(A) consent
(B) angry
(C) assess
(D) proceed
2. Obstinate
(A) stubborn
(B) pretty
(C) silly
(D) clever
3. Alert
(A) hostile
(B) watchful
(C) brave
(D) quick

In the following question, out of the four alternatives, choose the word which is opposite in meaning to the given word:

4. Omit
(A) exclude
(B) include
(C) undertake
(D) add
5. Integration
(A) unity
(B) synthesis
(C) linking
(D) fragmentation

Change the given sentences from Active into Passive:

6. Sita loves Savitri.
(A) Savitri loved by Sita.
(B) Savitri is loved by Sita.
(C) Savitri is loved to Sita.
(D) Savitri is loved as Sita.
7. The mason is building the wall.
(A) The wall built by the mason.
(B) The wall is being built by mason.
(C) The wall is built by the mason.
(D) The wall is being built by the mason.

Put Comma at appropriate places:

8. (A) West Bengal is surrounded by Orissa, Bihar, Sikkim, Assam etc.
(B) West Bengal, is surrounded by Orissa Bihar Sikkim, Assam etc.
(C) West Bengal is, surrounded by Orissa Bihar, Sikkim, Assam etc.
(D) West Bengal is surrounded by, Orissa, Bihar, Sikkim, Assam, etc.
9. (A) He lost, lands, money, reputation and friends.
(B) He lost lands money reputation and friends.
(C) He lost lands money, reputation and friends.
(D) He lost lands, money, reputation and friends.
10. (A) England France and Italy, formed an alliance.
(B) England, France and Italy formed an alliance.
(C) England France, and, Italy formed an alliance.
(D) England France and Italy formed, an, alliance.

EA

B-4

Four words are given, out of which only one word is spelt correctly. Choose the correctly spelt.

11. (A) externel
(B) introvert
(C) extrovert
(D) exect

12. (A) entirly
(B) gracious
(C) discern
(D) contestent

13. (A) scenary
(B) granery
(C) luminary
(D) visionary

14. (A) excution
(B) excitment
(C) expedition
(D) extrection

In the following questions, one part of the sentence may have an error. Find out which part of the sentence has an error. If the sentence is free from error, select "No error".

15. My sister (A) /has read (B) / pages after pages of the Bible (C) / No Error (D)

- (A) A
(B) B
(C) C
(D) D

16. Gowri told me (A) / his name after (B) / he left (C) / No Error (D)

- (A) A
(B) B
(C) C
(D) D

17. Knowledge of (A) / at least two languages (B) / are required to pass the examination (C) / No Error (D)

- (A) A
(B) B
(C) C
(D) D

18. No sooner had the hockey match started (A) / when it began (B) / to rain (C) / No Error (D)

- (A) A
(B) B
(C) C
(D) D

The sentences given with blanks are to be filled with an appropriate word(s). Four alternatives are suggested for each question. For each question, choose the correct alternative.

19. Ashoka's accession _____ the throne was celebrated with great pomp.

- (A) for
(B) with
(C) against
(D) to

20. They needn't worry, _____?

- (A) isn't it
(B) doesn't it
(C) don't it
(D) need they

21. My book is the new one: _____ is the torn one.

- (A) your
(B) the book of you
(C) yours
(D) the book your

B-5

EA

22. He is indifferent alike _____
praise and blame.

- (A) in
- (B) to
- (C) for
- (D) about

Choose the alternative which best expresses the meaning of the idiom/phrases in underlines:

23. His argument does not hold water.

- (A) to have effect
- (B) to influence
- (C) to check the flow of water
- (D) sound logical fact

24. A close shave

- (A) A narrow escape from danger
- (B) stubble
- (C) very short hair
- (D) hairless skin

25. Please be as brief as you can, I have other fish to fry

- (A) to cook the food
- (B) to take rest
- (C) some important work to attend
- (D) to attend the friends

PART II: BENGALI

Total Marks : 25

সমাস নির্ণয় করোঃ

26. রত্নাকর = 'রত্নের আকর'—কোন সমাস?

- (A) দ্বন্দ্ব সমাস
- (B) তৎপুরুষ সমাস
- (C) দ্বিগু সমাস
- (D) অব্যয়ীভাব সমাস

27. অস্তেপ্তিক্রিয়া = 'অস্তেপ্তি বিষয়ক ক্রিয়া'—কোন সমাস?

- (A) মধ্যপদলোপী কর্মধারায় সমাস
- (B) সম্বন্ধ তৎপুরুষ সমাস
- (C) উপমান কর্মধারায় সমাস
- (D) রূপক কর্মধারায় সমাস

28. কর্তব্যক্তি = 'যিনি কর্তা তিনিই ব্যক্তি'—কোন সমাস?

- (A) বহুব্রীহি সমাস
- (B) দ্বিগু সমাস
- (C) তৎপুরুষ সমাস
- (D) কর্মধারায় সমাস

29. চালাকচতুর = 'যে চালাক সেই চতুর'—কোন সমাস?

- (A) তৎপুরুষ সমাস
- (B) দ্বিগু সমাস
- (C) কর্মধারায় সমাস
- (D) বহুব্রীহি সমাস

30. তেপান্তর = 'ত্রি প্রান্তরের সমাহার'—কোন সমাস?

- (A) প্রত্যয়ীভাব সমাস
- (B) দ্বিগু সমাস
- (C) অব্যয়ীভাব সমাস
- (D) কর্মধারায় সমাস

31. কোন বানানটি সঠিক?

- (A) সাদৃঘ্র
- (B) শাদৃশ্য
- (C) সাদৃস্য
- (D) সাদৃশ্য

EA

B-6

32. কোন বানানটি সঠিক?

- (A) দুস্কার্য
- (B) দৃস্কার্য
- (C) দুস্কার্য
- (D) দৃস্কার্য

33. কোন বানানটি সঠিক?

- (A) জির্নতা
- (B) জির্নতা
- (C) জীর্নতা
- (D) জীর্নতা

34. কোন বানানটি সঠিক?

- (A) শ্রমজিবী
- (B) শ্রমজীবী
- (C) শ্রমজীবি
- (D) শ্রমজিবী

35. কোন বানানটি সঠিক?

- (A) সমিচিন
- (B) সমীচীন
- (C) সমীচিন
- (D) সমিচীন

অর্থ লেখো :

36. জলদ

- (A) আকাশ
- (B) মেঘ
- (C) নদী
- (D) বৃষ্টি

37. আশীবিষ

- (A) বিদ্যুৎ
- (B) পাখী
- (C) মেঘ
- (D) সাপ

38. কৃন্তিবাস

- (A) বাঘ
- (B) শিব
- (C) কালিদাস
- (D) সিংহ

39. বসুন্ধরা

- (A) নদী
- (B) বায়ু
- (C) পৃথিবী
- (D) মেঘ

40. তটিনী

- (A) অর্থ
- (B) নদী
- (C) জল
- (D) আকাশ

বাক্যসংকোচন করো :

41. অনুকরণ করা যায় না যাহা—

- (A) করণীয়
- (B) অনুকরণীয়
- (C) অননুকরণীয়
- (D) উপরের কোনোটিই নয়

42. কোনো কিছুতেই যে ভীত নয়—

- (A) অকুতোভয়
- (B) নির্ভয়
- (C) বীর
- (D) সাহসী

B-7

EA

43. ঋষির মত—

- (A) ঋষভ
- (B) ঋষিতুল্য
- (C) ঋষিকল্প
- (D) ঋষিক

44. একমত হওয়ার ভাব—

- (A) একমত্য
- (B) ঐক্যমত্য
- (C) ঐকমত্য
- (D) একমত্ত

45. উচ্চারণ করা যায় না যাহা—

- (A) অনুচ্চার্য
- (B) দুরাচ্চার্য
- (C) অনুশ্চার্য
- (D) উপরের কোনোটিই নয়

সন্ধি বিচ্ছেদ করোঃ

46. জগবন্ধু

- (A) জগো + বন্ধু
- (B) জগঃ + বন্ধু
- (C) জগৎ + বন্ধু
- (D) জগ + বন্ধু

47. আর্ধেক

- (A) আধি + এক
- (B) আধা + এক
- (C) অর্ধ + এক
- (D) আধ + এক

48. সরোবর

- (A) সরঃ + বর
- (B) সরোঃ + বর
- (C) সর + বর
- (D) সরো + বর

49. ঢাকেশ্বরী

- (A) ঢাকেশ + শরী
- (B) ঢাক + ঈশ্বরী
- (C) ঢাকা + ঈশ্বরী
- (D) ঢাকেশ + শরী

50. আন্না

- (A) আর + না
- (B) আঃ + না
- (C) আন + না
- (D) আ + ন্না

PART III : ARITHMETIC

Total Marks : 25

51. If \div stands for multiplication, \times for addition, $+$ for subtraction and $-$ for division, then the value of $16 \times 3 + 4 - 2 \div 4$ will be

- (A) 19
- (B) 11
- (C) 9
- (D) 15

52. A cloth merchant has announced 25% rebate in prices. If one needs to have a rebate of 40, then how many metres of cloth costing 32 per metre he should purchase?

- (A) 6m
- (B) 5m
- (C) 10m
- (D) 7m

53. $(\sqrt{8} - \sqrt{4} - \sqrt{2})$ equals

- (A) $2 - \sqrt{2}$
- (B) $\sqrt{2} - 2$
- (C) 2
- (D) -2

54. Every angle of a regular hexagon is

- (A) 90°
- (B) 120°
- (C) 135°
- (D) 145°

EA

B-8

55. Among the six persons A, B, C, D, E, F there are three married couples of which A, C, E are husbands ; B, C, D are cousins and B is not wife of A. Then husband of B is

- (A) C
- (B) A
- (C) E
- (D) F

56. Find the missing number from the series:

8, 15, 28, 53, ?, 199

- (A) 104
- (B) 103
- (C) 102
- (D) 101

57. The time for a train of length 110 metres running at the speed of 72 km/hr to cross a bridge of length 130 metres is

- (A) 12 sec.
- (B) 12.1 sec.
- (C) 12.42 sec.
- (D) 14.3 sec.

58. A profit of ₹ 960 is divided between A and B in the ratio 1:2. The difference of their profit is

- (A) ₹ 120
- (B) ₹ 160
- (C) ₹ 320
- (D) ₹ 240

59. A father can do job as fast as 2 sons working together. If one son does the job in 3 hours and the other in 6 hours, the number of hours taken by the father, to do the job alone is

- (A) 1
- (B) 2
- (C) 3
- (D) 4

60. If 73429186 denotes PURCHASE and 54064 denotes ORDER, then what will 7452688 denote?

- (A) PROGRES
- (B) PROCEED
- (C) PROGRAM
- (D) PROCESS

61. The Cost of carpeting a room is ₹ 120. If the width had been 4 metres less, the cost of the carpet would have been ₹ 20 less. The width of the room is

- (A) 24 m
- (B) 20 m
- (C) 25 m
- (D) 18.5 m

62. In an examination Raj got more marks than Moti but not as many as Meena. Meena got more marks than Ganesh and Rupali. Ganesh got less marks than Moti but his marks are not the lowest in the group. Who is second in the descending order of marks ?

- (A) Meena
- (B) Rupali
- (C) Raj
- (D) None of the above

63. Speed of a boat in still water is 5km/hr and the speed of current is 1km/hr. What time it will take to cover 18km if the boat moves in the direction of the current?

- (A) 4hr
- (B) 3hr
- (C) 2hr
- (D) 1hr

64. If $a : b = 2:3$ and $b:c = 6:7$, that what is $a:c$?

- (A) 5:3
- (B) 3:5
- (C) 7:21
- (D) 4:7

65. In a school there are 1000 students, 40% of them are girls. Monthly fee of each boy is 400 and fee of each girl is 25% less than that of a boy. The sum of fees of boys & girls is

- (A) 7,20,000
- (B) 3,60,000
- (C) 36,000
- (D) 72,000

66. Simplify the equation:

$$\frac{(0.73)^3 + (0.27)^3}{(0.73)^2 + (0.27)^2 - (0.73) \times (0.27)}$$

- (A) 1
- (B) 0.4087
- (C) 0.73
- (D) 0.27

67. A tap can fill a cistern in 8 hours and another tap can empty it in 16 hours. If both the taps are open, the time (in hours) taken to fill the tank will be

- (A) 8
- (B) 10
- (C) 16
- (D) 24

68. If a sum of money doubles itself in 8 yrs, then the interest rate in percentage is

- (A) $8\frac{1}{2}\%$
- (B) 10%
- (C) $10\frac{1}{2}\%$
- (D) $12\frac{1}{2}\%$

69. $(7.5 \times 7.5 + 37.5 + 2.5 \times 2.5)$ is equal to

- (A) 100
- (B) 80
- (C) 60
- (D) 30

70. The LCM and the HCF of the numbers 28 and 42 are in the ratio

- (A) 6:1
- (B) 2:3
- (C) 3:2
- (D) 7:2

71. A can do a work in 12 days while B can do it in 15 days. They undertake to complete it together for ₹ 450. What will be the share of A in this amount of money ?

- (A) ₹ 200
- (B) ₹ 240
- (C) ₹ 250
- (D) ₹ 300

72. Find the odd one out :

- (A) Square
- (B) Circle
- (C) Parallelogram
- (D) Rectangle

73. The average monthly salary of 19 members of a group is ₹ 16,000. If one more member whose monthly salary is ₹ 20,000 has joined the group, then the average salary of the group is

- (A) ₹ 18,250
- (B) ₹ 16,200
- (C) ₹ 18,000
- (D) ₹ 16,250

EA

B-10

74. By how much does $\sqrt{27} + \sqrt{18}$ exceed $\sqrt{3} + \sqrt{2}$?

- (A) $2(\sqrt{3} - \sqrt{2})$
- (B) $2(\sqrt{3} + \sqrt{2})$
- (C) $\sqrt{3} + 2\sqrt{2}$
- (D) $\sqrt{2} - 4\sqrt{3}$

75. One morning after sunrise Bikram and Shailesh were standing in a lawn with their back towards each other. Bikram's shadow fell exactly towards left-hand side. Which direction Shailesh was facing ?

- (A) East
- (B) West
- (C) North
- (D) South

PART IV : GENERAL KNOWLEDGE

Total Marks : 10

76. Which of the following constitutional Amendment Act, Panchayats got constitutional status?

- (A) 73rd Amendment Act
- (B) 74th Amendment Act
- (C) 75th Amendment Act
- (D) 76th Amendment Act

77. Which of the following types of climate West Bengal experiences ?

- (A) Tropical Monsoon
- (B) Semi-arid
- (C) Humid
- (D) Sub-tropical dry

78. Which commission has decided to approach the government for granting it constitutional status?

- (A) Election Commission
- (B) Finance Commission
- (C) National Commission for SC's
- (D) The National Commission for Minorities

79. P.V. Sindhu is associated with which sports?

- (A) Wrestling
- (B) Badminton
- (C) Cricket
- (D) Chess

80. The Right to Education Act was enacted in which year?

- (A) 2002
- (B) 2005
- (C) 2007
- (D) 2009

81. Which of the following states has least population density, as per Census 2011?

- (A) Jammu and Kashmir
- (B) Bihar
- (C) Arunachal Pradesh
- (D) Manipur

82. The term "Doab" means

- (A) a land between two mountains
- (B) a land between two lakes
- (C) a land between two rivers
- (D) a land between two seas

83. The 2018 World Sanskrit Conference (WSC) was held in

- (A) India
- (B) Germany
- (C) Russia
- (D) Canada

84. With which revolt names of Sidhu & Kanhu are associated?

- (A) Chakma
- (B) Santhal
- (C) Indigo
- (D) Khasi

85. Pulitzer Prize is given in the field of

- (A) Music
- (B) Journalism
- (C) Medicine
- (D) Environment

B-11

EA

Space for Rough Work



Test

Prime

By Adda247

Previous Year Papers PDF

PRACTICE MORE, SCORE HIGHER!



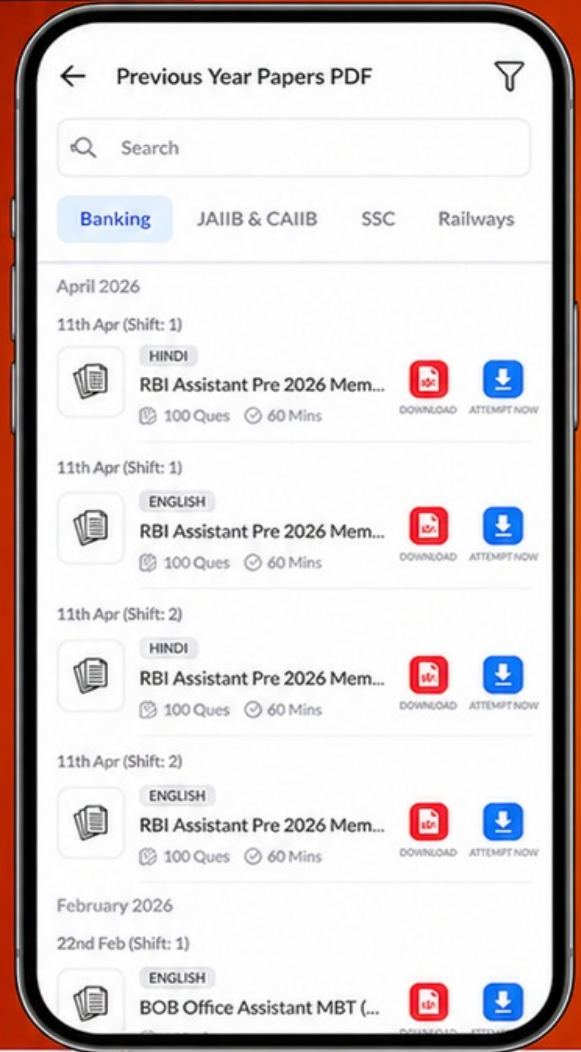
Free 25,000+ PDF's

High-Quality | Exam-Wise | Updated Regularly

ATTEMPT AS MOCK



Turn PDFs into real exam experience.
Analyze. Improve. Succeed.



Topic-wise & Exam-wise PDFs



Download & Study Offline



Attempt as Mock & Track Score



Smart Analysis & Performance

AVAILABLE IN



Banking



SSC



Railway



Teaching



UGC



Agriculture



Nursing



Bihar



UP



Punjab



WB



Odisha



TN



AP & Telangana



Haryana



DOWNLOAD THE APP



EA

B-12

Space for Rough Work

