

**WB GP  
(Secretary)**

**Previous Year Paper  
22 Jul, 2018**

**Adda247**

**Test  
Prime**

By Adda247

# ALL EXAMS, ONE SUBSCRIPTION



Test. Analyze. Improve. Repeat.



**Don't just prepare. Perform.**

Test Prime — built only for mock tests.



**1,50,000+**  
Mock Tests



**25,000+**  
Previous Year Papers



**800+**  
Exam Covered



**500% Refund**  
on Selection



**5 lakh+**  
Free Quizzes



**Daily**  
Free PDFs



**Job Alerts**  
Stay Updated

- Multilingual
- Detailed Solution
- Strong and Weak Areas



**All India  
Rankings**

Compete with lakhs.  
Rank. Improve. Repeat.



← Adda247 test prime

Rating ▾

Editors' choice

New



Adda247 Test Prime  
Adda Education • Education  
Installed



**DOWNLOAD THE APP**



SEC

DO NOT OPEN THIS BOOKLET UNTIL YOU ARE ASKED TO DO SO.

## TEST BOOKLET

Time allowed : 90 Minutes

Full marks : 85

Answer *all* the questions.

All questions carry 1 mark each.

TEST BOOKLET SERIES



006917

Serial No. ....

Roll No. 

উত্তর লেখার পূর্বে নিম্নলিখিত নির্দেশাবলী ভাল করে পড়ুন


নির্দেশাবলী

- প্রশ্ন-পুস্তিকাতে 85টি Multiple Choice Answer Type প্রশ্ন দেওয়া আছে। নির্দেশ পাওয়ার পর প্রশ্ন-পুস্তিকার সব পৃষ্ঠা খুলে, সব পৃষ্ঠা/প্রশ্ন পর পর আছে কিনা, বা ছাপা/ছেঁড়া/পুনরাবৃত্তি আছে কিনা দেখে নিন। যদি প্রশ্ন-পুস্তিকা এবং আপনাকে দেওয়া OMR উত্তরপত্রে কোথাও কোনো ত্রুটি থাকে সঙ্গে সঙ্গে পরীক্ষা তত্ত্বাবধায়ককে জানান এবং বদলে নিন।
- নির্দেশ পাওয়ার পর, OMR উত্তরপত্রে আপনার নিজের সম্বন্ধে যে সাধারণ তথ্যগুলি জানতে চাওয়া হয়েছে তা পূরণ করুন। উত্তরপত্রের 6 ক্রমিক সংখ্যায় প্রদত্ত ঘরে (BOX-এ) রোল নম্বর লিখুন এবং তার অনুরূপ বৃত্তগুলিকে ভরাট করুন। আপনি যদি নির্দেশমত উত্তরপত্রে বিশদ তথ্যাদি এবং 6 ক্রমিক সংখ্যার অনুরূপ বৃত্তগুলিকে ভরাট করতে ব্যর্থ হন এবং এর পরিণামে আপনার উত্তরপত্রের মূল্যায়নের ক্ষেত্রে যদি কোনো অসুবিধে হয় তার জন্যে ব্যক্তিগতভাবে আপনি সম্পূর্ণভাবে দায়ী থাকবেন।
- OMR উত্তরপত্রে যে 'Bar Code' ছাপা আছে তাতে কোনো দাগ দেওয়া বা কোনো বিকৃতি ঘটানো যাবে না, অন্যথায় প্রার্থীর প্রার্থীপদ বাতিল হয়ে যাবে। OMR উত্তরপত্রটি ভাঁজ করবেন না বা তাতে অযথা অন্য কোনো দাগ দেবেন না।
- প্রশ্ন-পুস্তিকার প্রত্যেক প্রশ্নের সঙ্গে 4টি করে উত্তর দেওয়া আছে। উত্তরগুলি A, B, C ও D এই 4টি ইংরেজি বর্ণ দিয়ে চিহ্নিত করা আছে। প্রতিটি প্রশ্ন মন দিয়ে পড়ুন এবং আপনার মতে 4টি উত্তরের মধ্যে সঠিক উত্তরটি বাছুন। OMR উত্তরপত্রে প্রতিটি প্রশ্নের ক্রমিক সংখ্যা অনুসারে নির্দিষ্ট বৃত্তটি সম্পূর্ণ গাঢ় করে ভরাট করুন। উত্তর চিহ্নিত করবার জন্য কেবলমাত্র কালো/নীল কালির বল পয়েন্ট পেন (Black/Blue Ink Ball Point Pen) ব্যবহার করুন।
- কোনো একটি নির্দিষ্ট প্রশ্নের উত্তর হিসাবে যদি উত্তরপত্রে একাধিক বৃত্ত ভরাট করা হয় তাহলে তা ভুল উত্তর হিসাবে পরিগণিত হবে। যদি কোনো প্রশ্নে 'B' সঠিক উত্তর হয়, তাহলে নিম্নে প্রদর্শিত উপায়ে চিহ্নিত করুন :  
সঠিক পদ্ধতি :  A  B  C  D  
ভুল পদ্ধতি :  A  B  C  D অথবা  
 A  B  C  D অথবা  
 A  B  C  D অথবা  
 A  B  C  D অথবা  
 A  B  C  D
- প্রশ্ন-পুস্তিকার শেষের ফাঁকা জায়গা প্রয়োজনে আপনার খসড়া কাজের (Rough work) জন্য ব্যবহার করতে পারেন। পাতাটি প্রশ্ন-পুস্তিকা থেকে ছিঁড়ে ফেলবেন না।
- পরীক্ষার পর পরীক্ষা তত্ত্বাবধায়কের হাতে আপনার OMR উত্তরপত্রটি জমা দেবেন। প্রশ্ন-পুস্তিকাটি আপনার কাছে রেখে দেবেন।
- উত্তরপত্রটির পরিকল্পনা করা হয়েছে কম্পিউটারের মাধ্যমে মূল্যায়নের উদ্দেশ্যে। উপরের নির্দেশাবলী এবং OMR উত্তরপত্রে প্রদর্শিত নির্দেশাবলী যথাযথভাবে অনুসরণ না করলে এই মূল্যায়নের কাজ দুরূহ হয়ে উঠবে। এই নির্দেশাবলী পূর্ণভাবে অনুসৃত না হলে পরিণামে চূড়ান্ত ক্ষতি পরীক্ষার্থীরই হবে।
- কোনো পরীক্ষার্থীর মোবাইল ফোন, ক্যালকুলেটর অথবা কোনো প্রকারের ইলেকট্রনিক্স গ্যাজেটের ব্যবহার করার অনুমতি নেই।
- Negative Marking** আছে। প্রতি 3টি ভুল উত্তরের জন্য 1 নম্বর কাটা যাবে।

[Please Turn Over]

Q.10

DO NOT OPEN THIS BOOKLET UNTIL YOU ARE ASKED TO DO SO



TESTBOOK  
TESTBOOK  
TESTBOOK  
TESTBOOK  
TESTBOOK  
TESTBOOK  
TESTBOOK  
TESTBOOK  
TESTBOOK  
TESTBOOK

008817

The marks for this test are 100 and the duration is 120 minutes.

1. The marks for this test are 100 and the duration is 120 minutes.

2. The marks for this test are 100 and the duration is 120 minutes.

3. The marks for this test are 100 and the duration is 120 minutes.

4. The marks for this test are 100 and the duration is 120 minutes.

5. The marks for this test are 100 and the duration is 120 minutes.

6. The marks for this test are 100 and the duration is 120 minutes.

7. The marks for this test are 100 and the duration is 120 minutes.

8. The marks for this test are 100 and the duration is 120 minutes.

9. The marks for this test are 100 and the duration is 120 minutes.

10. The marks for this test are 100 and the duration is 120 minutes.



(Please Turn Over)

A-3

SEC

## PART - I : ENGLISH

Total Marks : 25

In the following question, out of the four alternatives, choose the word which best expresses the meaning of the given word:

1. Forsaken
  - (A) Nurtured
  - (B) Neglected
  - (C) Pardoned
  - (D) Abandoned
  
2. Command
  - (A) Lead
  - (B) Instruct
  - (C) Manage
  - (D) Supervise

Change the given sentences from Active into Passive.

3. He will finish the work in a fortnight.
  - (A) The work will be finished by him in a fortnight.
  - (B) The work finished him in a fortnight.
  - (C) The work finished by him in fortnight.
  - (D) The work will be finished fortnight.
  
4. Why did your brother write such a letter?
  - (A) Why was letter write by your brother?
  - (B) Why was such a letter writted by brother?
  - (C) Why was such a letter written by your brother?
  - (D) Why was such a letter written as by your brother?
  
5. The cat killed the mouse.
  - (A) The mouse has killed by the cat.
  - (B) The mouse was killed by the cat.
  - (C) The mouse was killed the cat.
  - (D) The mouse was been killed by the cat.

In the following question, out of the four alternatives, choose the word which is opposite in meaning to the given word.

6. FLUENT
  - (A) Insult
  - (B) Inarticulate
  - (C) Internal
  - (D) Insensitive
  
7. Prudent
  - (A) Silly
  - (B) Unwise
  - (C) Idiotic
  - (D) Poor
  
8. Concise
  - (A) Intended
  - (B) Short
  - (C) Protracted
  - (D) Elongated

Put Comma at appropriate places:

9. (A) Pandit Nehru the first Prime Minister of India died in 1964.
  - (B) Pandit Nehru, the first Prime Minister of India, died in 1964..
  - (C) Pandit Nehru the first Prime Minister, of India died in 1964..
  - (D) Pandit Nehru, the first Prime Minister of India died in 1964.
10. (A) Germany, Japan, and Italy formed an alliance.
  - (B) Germany, Japan and, Italy formed an alliance.
  - (C) Germany, Japan and Italy formed, an alliance.
  - (D) Germany, Japan and Italy formed an alliance.

[Please Turn Over]

SEC

A-4

Four words are given, out of which only one word is spelt correctly. Choose the correctly spelt word.

11. (A) Sanctaries  
(B) Sanctauries  
(C) Santuaries  
(D) Sanctuaries

12. (A) Aproprate  
(B) Appropriate  
(C) Appropiarte  
(D) Approprite

13. (A) Necessary  
(B) Neccesary  
(C) Necessary  
(D) Necessari

14. (A) Superstition  
(B) Supertition  
(C) Superstution  
(D) Soperstition

15. (A) Discoss  
(B) Disscuss  
(C) Discus  
(D) Discuss

The sentences given with blanks are to be filled with an appropriate word(s). Four alternatives are suggested for each question. For each question, choose the correct alternative.

16. You will have to work \_\_\_\_\_ you are in the office.

- (A) as long as  
(B) as good as  
(C) as far as  
(D) so far as

17. You must abide \_\_\_\_\_ orders.

- (A) to  
(B) by  
(C) for  
(D) from

Write one word substitution for the following:

18. One who knows everything

- (A) Omnipotent  
(B) Omniscient  
(C) Omnipresent  
(D) Omnilogos

19. One who makes an official examination of accounts

- (A) Comptroller  
(B) Auditor  
(C) Accountant  
(D) Banker

20. One who is filled with excessive enthusiasm in religious matters

- (A) Fugitive  
(B) Gourmand  
(C) Fanatic  
(D) Atheist

21. One who hates mankind

- (A) Misogynist  
(B) Misanthrope  
(C) Misogamist  
(D) Mercenary

A-5

SEC

22. A person who walks in sleep

- (A) Somnambulist
- (B) Stoic
- (C) Recluse
- (D) Narcissist

Choose the alternative which best expresses the meaning of the idiom/phrases in underlines:

23. It was her maiden speech on the stage and she performed well.

- (A) unprepared speech
- (B) sudden speech
- (C) primary speech
- (D) first speech

24. The detective went abroad in search of a culprit but his journey proved to be a wild goose chase.

- (A) expensive
- (B) full of difficulties
- (C) unprofitable expenditure
- (D) ill advised

25. To take after

- (A) to resemble
- (B) to remove
- (C) to cheat
- (D) to write down

## PART - II : BENGALI

Total Marks : 25

26. কুশাসন = 'কুশ নির্মিত আসন' — কোন সমাস ?

- (A) মধ্যপদলোপী কর্মধারয় সমাস
- (B) সম্বন্ধ তৎপুরুষ সমাস
- (C) উপমান কর্মধারয় সমাস
- (D) রূপক কর্মধারয় সমাস

29. সিংহাসন = 'সিংহ চিহ্নিত আসন' — কোন সমাস ?

- (A) মধ্যপদলোপী কর্মধারয় সমাস
- (B) সম্বন্ধ তৎপুরুষ সমাস
- (C) উপমান কর্মধারয় সমাস
- (D) রূপক কর্মধারয় সমাস

27. গ্রামান্তর = 'অন্য গ্রাম' — কোন সমাস ?

- (A) কর্মধারয় সমাস
- (B) নিত্য সমাস
- (C) তৎপুরুষ সমাস
- (D) দ্বিগু সমাস

30. অনেক = 'এক নয়' — কোন সমাস ?

- (A) নঞ তৎপুরুষ সমাস
- (B) সম্বন্ধ তৎপুরুষ সমাস
- (C) রূপক তৎপুরুষ সমাস
- (D) কোনোটিই নয়

28. দাঁতকপাটি = 'দাঁতে কপাটি' — কোন সমাস ?

- (A) তৎপুরুষ সমাস
- (B) দ্বিগু সমাস
- (C) কর্মধারয় সমাস
- (D) বহুব্রীহি সমাস

31. কোন বানানটি সঠিক ?

- (A) মরিচীকা
- (B) মরীচীকা
- (C) মরিচিকা
- (D) মরীচিকা

SEC

A-6

32. কোন বানানটি সঠিক?

- (A) মুমূর্ষু
- (B) মুমূর্ষু
- (C) মুমূর্ষু
- (D) মুমূর্ষু

33. কোন বানানটি সঠিক?

- (A) সরসত্তী
- (B) সরস্বতী
- (C) স্বরসতী
- (D) স্বরস্বতী

34. কোন বানানটি সঠিক?

- (A) ঔদাসীন্ন
- (B) উদাসীন্য
- (C) উদাসিন্ন
- (D) ঔদাসীন্য

35. কোন বানানটি সঠিক?

- (A) শারিরীক
- (B) শারীরিক
- (C) শারীরীক
- (D) শারিরিক

নীচের কোনটি সঠিক পদ পরিবর্তন (বিশেষ্য থেকে বিশেষণ)?

- 36. (A) আরোহন — আরোহিত
- (B) আদেশ — আদেশিক
- (C) ইচ্ছা — ইচ্ছিক
- (D) উদয় — উদয়ী

37. (A) উদর — ওদারিক

- (B) উৎসাহ — উৎসাহিত
- (C) উপচার — উপাচার
- (D) উন্নয়ন — উন্নয়িত

38. (A) অন্ত — অনস্ত

- (B) অন্ত — অনন্য
- (C) অন্ত — অন্ত্য
- (D) অন্ত — অন্তিম

39. (A) উদ্ভব — উদ্ভূত

- (B) উদ্ভব — উদ্ভাবিত
- (C) উপমা — উপমায়িত
- (D) উপলব্ধি — উপলব্ধ

40. (A) গ্রহণ — গ্রাহ্য

- (B) গ্রহণ — গার্হিত
- (C) গ্রহণ — গ্রাহিত
- (D) গ্রহণ — গ্রহীত

বাক্যসংকোচন করো:

41. পরিতোষ সহকারে যাহা দেওয়া হয়—

- (A) পারিতোষিক
- (B) পরিতোষিক
- (C) পুরস্কার
- (D) কোনটিই নয়

42. অশ্বের চীৎকার —

- (A) হুয়া
- (B) হুয়া
- (C) বৃংহতি
- (D) কোনোটাই নয়



A-7

SEC

43. আদিনাই যাহার

- (A) অন্তহীন
- (B) আদিঅন্তহীন
- (C) অনাদি
- (D) কোনোটিই নয়

44. আমিষ ভক্ষণ করেন না যিনি

- (A) তৃণভোজী
- (B) আমিষাশী
- (C) নিরামিষাশী
- (D) কোনোটিই নয়

45. আয় বুঝে ব্যয় করেন যিনি

- (A) স্বল্পব্যয়ী
- (B) কৃপণ
- (C) মিতব্যয়ী
- (D) কোনোটিই নয়

অর্থ লেখ :

46. গগন

- (A) আশ্বিন
- (B) আকাশ
- (C) কিরণ
- (D) কন্যা

47. শতদল

- (A) বায়ু
- (B) নদী
- (C) আশ্বিন
- (D) পদ্ম

48. তনয়

- (A) চন্দ্র
- (B) ঘোড়া
- (C) পুত্র
- (D) সূর্য

49. মেদিনী

- (A) সূর্য
- (B) পৃথিবী
- (C) নদী
- (D) গাছ

50. রজনী

- (A) সমুদ্র
- (B) রাত্রি
- (C) বিদ্যুৎ
- (D) মেঘ

PART - III : ARITHMETIC

Total Marks : 25

51. One number is 25% of another number. The larger number is 12 more than the smaller. The large number is

- (A) 48
- (B) 16
- (C) 4
- (D) 12

52. A person spends  $\frac{2}{3}$ rd of his income and is able to save Rs. 3200 per month. His per month expenditure is (in Rs.)

- (A) 3600
- (B) 2400
- (C) 6400
- (D) 6000

SEC

A-8

53. If the simple interest on Rs. 400 for 10 years is Rs. 280, then rate of interest per annum is

- (A) 7%
- (B)  $7\frac{1}{2}\%$
- (C)  $7\frac{1}{4}\%$
- (D)  $8\frac{1}{2}\%$

54. The average age of eight teachers in a school is 40 years. A teacher among them died at the age of 55 years whereas another teacher whose age was 39 years joins them. The average age of the teachers in the school now is (in years)

- (A) 35
- (B) 36
- (C) 38
- (D) 39

55. The sum of two positive integers is 80 and difference between them is 20. Then what is difference of squares of those numbers ?

- (A) 1400
- (B) 1600
- (C) 1800
- (D) 2000

56. If MASON is coded as NBTPO, then WORLD is coded as

- (A) XPSME
- (B) PSMEX
- (C) SMEXP
- (D) EXPSM

57. In a school there are 2000 students, 40% of them are girls. Monthly fee of each boy is 400 and fee of each girl is 25% less than that of a boy. The sum of fees of boys and girls is

- (A) Rs.7,20,000
- (B) Rs.72,000
- (C) Rs.3,60,000
- (D) Rs.1,20,000

58. The time for a train of length 130 metres running at the speed of 72 km/hr to cross a bridge of length 150 metres is

- (A) 9 sec
- (B) 12.1 sec
- (C) 13 sec
- (D) 14 sec

59. Speed of a boat in still water is 4km/hr and the speed of current is 1km/hr. What time it will take to cover 20km if the boat moves in the direction of the current?

- (A) 4 hr
- (B) 3 hr
- (C) 2 hr
- (D) 1 hr

60. Ganesh, Ram and Sohan together can complete a work in 16 days. If Ganesh and Ram together can complete the same work in 24 days, the number of days Sohan alone takes, to finish the work is

- (A) 40
- (B) 48
- (C) 32
- (D) 30

61. A shop keeper allows 20% discount on the marked price on his articles. Find the marked price of an article for which he charges Rs. 740?

- (A) Rs. 725
- (B) Rs. 875
- (C) Rs. 925
- (D) Rs. 1040

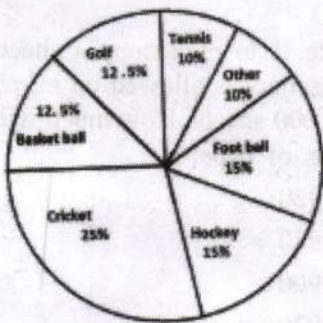
62. The 4th term of the following alphabet series ZX YM, VTUS, RPQO, \_\_\_\_\_, JHIG is

- (A) LNK M
- (B) NLK M
- (C) NLM K
- (D) LNM K

63. The average age of A, B is 51 years. If A is 2 years older than B then the present ages of A, B are ( in year)

- (A) 52,50
- (B) 54, 51
- (C) 50,52
- (D) 48, 51

64. The given pie chart have shows the spendings of a country on various sports during a year. Study the graph and answer the following questions.



If the total amount spent on sports during the year was Rs.15,000,000, the amount spent on cricket and hockey together was

- (A) Rs. 60,00,000
- (B) Rs. 50,00,000
- (C) Rs. 37,50,000
- (D) Rs. 75,00,000

65. If  $A : B = 4 : 5$  and  $B : C = 10 : 17$ , then  $A : C$  is

- (A) 4 : 17
- (B) 8 : 17
- (C) 2 : 17
- (D) 9 : 17

66. Complete the series

3, 8, 15, \_\_\_\_\_, 35

- (A) 19
- (B) 21
- (C) 24
- (D) 28

67. There are 1400 students in a school, 25% of those wear spectacles and  $\frac{2}{7}$  of those wearing spectacles are boys. How many girls in the school wear spectacles?

- (A) 250
- (B) 100
- (C) 200
- (D) 300

68. A man bought 4 dozen eggs at Rs. 24 per dozen and 2 dozen eggs at Rs. 32 per dozen. To gain 20% on the whole, he should sell the eggs at

- (A) Rs.16 per dozen
- (B) Rs.21 per dozen
- (C) Rs.32 per dozen
- (D) Rs.35 per dozen

69. P's salary is 25% higher than Q, what percentage is Q's salary lower than that of P?

- (A) 20
- (B) 29
- (C) 31
- (D)  $33\frac{1}{3}$

70. A, B and C can work together for Rs. 550, A and B together are to do  $\frac{7}{11}$  of the work. The share of C should be

- (A) Rs. 200
- (B) Rs. 300
- (C) Rs. 400
- (D) Rs. 450

SEC

A-10

71.  $\Delta ABC$  is an equilateral triangle, if its height is  $3\sqrt{3}$  then find its length.

- (A) 3 cm
- (B) 6 cm
- (C) 9 cm
- (D) 5 cm

72. The price of a chair is Rs. 500. It has been sold at two successive discounts of 10% each. What is its selling price?

- (A) Rs. 400
- (B) Rs. 405
- (C) Rs. 415
- (D) Rs. 425

73. The per cent profit made when an article is sold for Rs. 78 is twice as much as when it is sold for Rs. 69, the cost price of the article is

- (A) Rs. 60
- (B) Rs. 51
- (C) Rs. 55.50
- (D) Rs. 70

74. In a village panchayat society 600 names are enlisted as 'below poverty level'. If 20% of the villagers are below poverty level, the total number of villagers is

- (A) 4100
- (B) 4200
- (C) 4000
- (D) 3000

75. It costs Re. 1 to photocopy a sheet of paper. However, 2% discount is allowed on all photocopies done after first 1000 sheets. How much will it cost to copy 5000 sheets of paper ?

- (A) Rs. 3920
- (B) Rs. 3980
- (C) Rs. 4900
- (D) Rs. 4920

**PART - IV : GENERAL KNOWLEDGE****Total Marks : 10**

76. Who has been recently appointed as the Chairperson of the National Green Tribunal (NGT)?

- (A) Justice Adarsh Kumar Goel
- (B) Justice Swatanter Kumar
- (C) Justice Soumitra Sen
- (D) None of them

77. Who was the first Nobel prize winner in India?

- (A) C. V. Raman
- (B) Rabindranath Tagore
- (C) Amartya Sen
- (D) None of them

78. What is the chemical formula for oxygen?

- (A)  $O_4$
- (B)  $O_3$
- (C)  $O_2$
- (D)  $O_1$

79. In India the Repo rate is announced by

- (A) the Ministry of Finance, Government of India
- (B) the Prime Minister of India
- (C) the Reserve Bank of India
- (D) the President of India

A-11

SEC

80. BHIM app can be used to  
(A) locate monuments  
(B) make cashless payments  
(C) sign digital records  
(D) None of the above
81. The highest peak in India K2 is also known as  
(A) Karakoram  
(B) Kashmir  
(C) Godwin Austin  
(D) Kenneth
82. Give full form of SHGs.  
(A) Self House Groups  
(B) Self Healthy Groups  
(C) Self Held Groups  
(D) Self Help Groups
83. Which fruit was recently declared as State Fruit of Tripura?  
(A) Queen Pineapple  
(B) Alphonso Mango  
(C) Jackfruit  
(D) None of the above
84. The National Song of India "Vande Mataram" was written by  
(A) Lala Lajpat Rai  
(B) Rabindranath Tagore  
(C) Bankim Chandra Chattopadhyay  
(D) Tulsidas
85. Which river is known as 'Sorrow of Bengal'?  
(A) Teesta  
(B) Bhagirathi  
(C) Mahananda  
(D) Damodar

Test

Prime

By Adda247

# Previous Year Papers PDF

PRACTICE MORE, SCORE HIGHER!



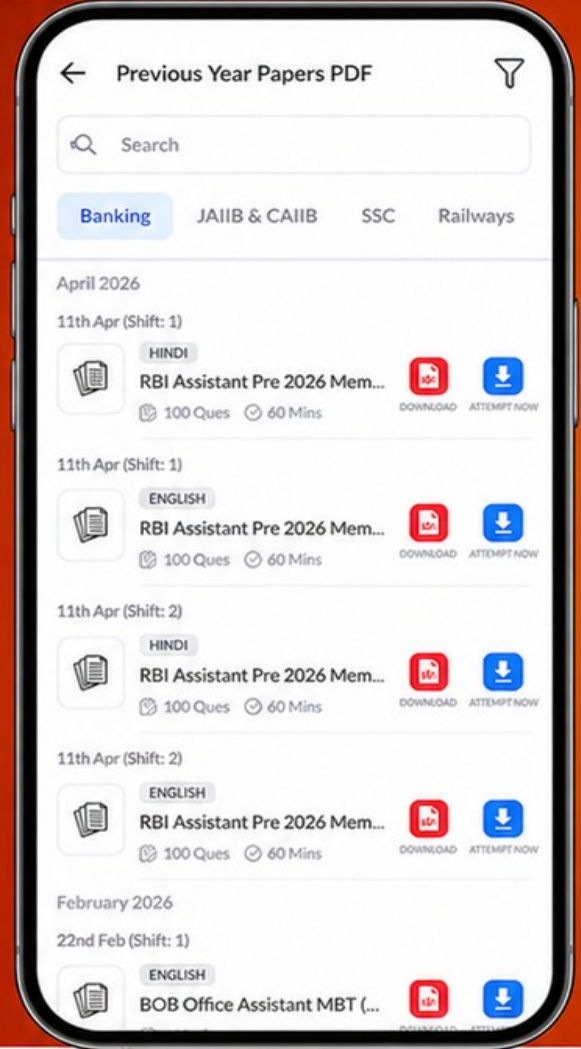
Free  
**25,000+**  
PDF's

High-Quality | Exam-Wise | Updated Regularly

ATTEMPT AS  
**MOCK**



Turn PDFs into real exam experience.  
Analyze. Improve. Succeed.



Topic-wise & Exam-wise PDFs



Download & Study Offline



Attempt as Mock & Track Score



Smart Analysis & Performance

AVAILABLE IN



Banking



SSC



Railway



Teaching



UGC



Agriculture



Nursing



Bihar



UP



Punjab



WB



Odisha



TN



AP & Telangana



Haryana



DOWNLOAD THE APP



SEC

A-12

Space for Rough Work



Adda247