

SSC
Stenographer 2020

Previous Year Paper
(15 Nov 2021 Shift 2)
Hindi

Adda247

Adda247

Test Prime

ALL EXAMS, ONE SUBSCRIPTION



1,00,000+
Mock Tests



Personalised
Report Card



Unlimited
Re-Attempt



600+
Exam Covered



25,000+ Previous
Year Papers



500%
Refund



ATTEMPT FREE MOCK NOW

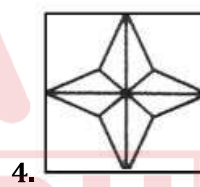
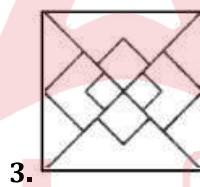
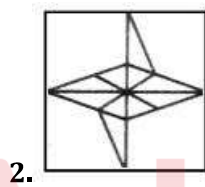
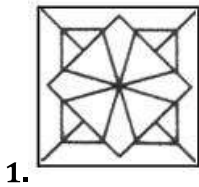

Stenographer 2020

15/11/2021-> (2:00 PM - 4:00 PM)

General Intelligence and Reasoning

Q.1)-

उस विकल्प का चयन करें, जिसमें दी गई आकृति अंतःस्थापित है (घूर्णन (रोटेशन) की अनुमति नहीं है)।



Q.2)- उस विकल्प का चयन करें, जो तीसरी संख्या से ठीक उसी प्रकार संबंधित है, जिस प्रकार दूसरी संख्या पहली संख्या से संबंधित है।

10 : 95 :: 12 : ?

1. 120 2. 138 3. 146 4. 110

Q.3)- उस सही विकल्प का चयन करें, जो दिए गए शब्दों को अंग्रेजी शब्दकोश के अनुसार, उनके सही क्रम में निरूपित करता है।

1. Reciprocate
2. Reception
3. Recapitulate
4. Recipient
5. Receiver

1. 3, 5, 4, 1, 2 2. 3, 4, 5, 1, 2 3. 3, 5, 2, 4, 1 4. 3, 1, 4, 5, 2

Q.4)- उस विकल्प का चयन करें, जो तीसरे अक्षर-समूह से ठीक उसी प्रकार संबंधित है, जिस प्रकार दूसरा अक्षर-समूह पहले अक्षर-समूह से संबंधित है।

SEASONAL : OEAALNSS :: FRUITS : ?

1. UIFRST 2. BRUVDR 3. BRUART 4. IUSTRF

Q.5)- Study the given pattern carefully and find the missing number.

(1, 1, 1, -1) (2, 4, 8, 2) (____, 36, 216, 174)

1. 18 2. 24 3. 22 4. 6

Q.6)- उस विकल्प का चयन करें, जो तीसरे अक्षर-समूह से ठीक उसी प्रकार संबंधित है, जिस प्रकार दूसरा अक्षर-समूह पहले अक्षर-समूह से संबंधित है।

BOOST : UTPPC :: LOFFER : ?

1. DGHPPQ 2. DGQPPO 3. SPMMFG 4. SPMGGF

Q.7)- उस अक्षर संयोजन का चयन करें, जिसे दी गई श्रेणी के रिक्त स्थानों में क्रमबद्ध रूप से रखने पर श्रेणी पूर्ण होगी।

A _ _ BCD _ AB _ _ DAA _ _ CDA _ _ BCD

1. BABABABCB 2. ABBBABCAB 3. ACBBABBAB 4. ABABCBBAB

Q.8)- कार्तिक और उसके माता-पिता की आयु का योगफल 122 वर्ष है। कार्तिक की आयु, उसकी माँ की आयु से आधी है। उसकी माँ उसके पिता से 7 वर्ष छोटी है। कार्तिक की वर्तमान आयु (वर्ष में) ज्ञात करें।

1. 23 2. 26 3. 15 4. 20

Q.9)- तीन कथनों के बाद चार निष्कर्ष I, II, III और IV दिए गए हैं। यह मानते हुए कि कथनों में दी गई जानकारी सत्य है, भले ही ये सामान्य रूप से ज्ञात तथ्यों से भिन्न प्रतीत होती हों, निर्धारित करें कि कौन-सा/से निष्कर्ष कथनों का तार्किक रूप से अनुसरण करता/करते हैं।

कथन:

कोई भी नीला, लाल नहीं है।

कुछ हरे, लाल हैं।

सभी पीले, हरे हैं।

निष्कर्ष:

I. कुछ पीले, लाल हैं।

II. कोई भी पीला, लाल नहीं है।

III. कुछ हरे, नीले हैं।

IV. कोई भी हरा, नीला नहीं है।

1. कोई भी निष्कर्ष अनुसरण नहीं करता है।
2. केवल निष्कर्ष III और IV अनुसरण करते हैं।
3. केवल निष्कर्ष I और II अनुसरण करते हैं।
4. केवल निष्कर्ष I और IV अनुसरण करते हैं।

Q.10)-

दी गई आकृति के सही दर्पण प्रतिबिंब का चयन करें, जब किसी ऊर्ध्वाधर दर्पण (vertical mirror) को आकृति के दाईं ओर रखा जाता है।



1. 2. 3. 4.

Q.11)- पांच मित्रों में, वसुधा को मोहन से अधिक लेकिन रोहन से कम अंक प्राप्त हुए, जीवन को दीप्ति से अधिक लेकिन मोहन से कम अंक प्राप्त हुए। उनमें से किसे सबसे अधिक अंक प्राप्त हुए?

1. रोहन 2. मोहन 3. दीप्ति 4. वसुधा

Q.12)- दिए गए पैटर्न का ध्यानपूर्वक अध्ययन करें और उस संख्या का चयन करें, जो इसमें प्रश्नवाचक चिह्न (?) के स्थान पर हो सकती है।

15 25 45
5 6 8
15 30 ?

1. 72 2. 60 3. 61 4. 76

Q.13)- निम्न समीकरण को संतुलित करने के लिए चिह्नों के सही क्रम का चयन करें।

20 _ 4 _ 6 _ 5 _ 35

1. ÷, ×, + और = 2. ×, ÷, + और = 3. +, ×, ÷ और = 4. ÷, ×, - और =

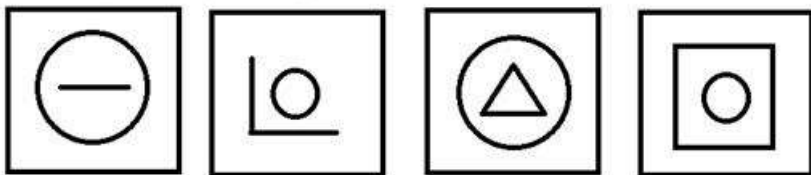
Q.14)- रिक्त स्थान को भरने के लिए सही विकल्प का चयन करें और दी गई श्रेणी को पूर्ण करें।

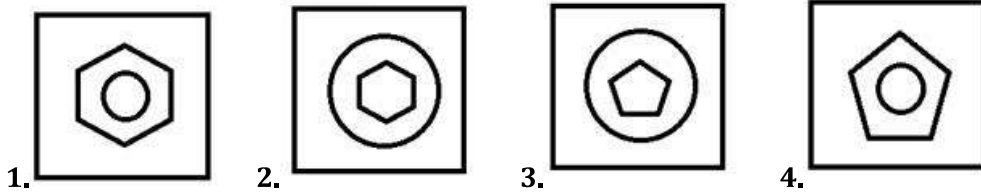
RRMR, STPV, TVSZ, _____, VZYH, WBBL

1. VXVC 2. VXUB 3. UYUC 4. UXVD

Q.15)-

उस आकृति का चयन करें, जो निम्न आकृति श्रेणी में आगे आएगी।





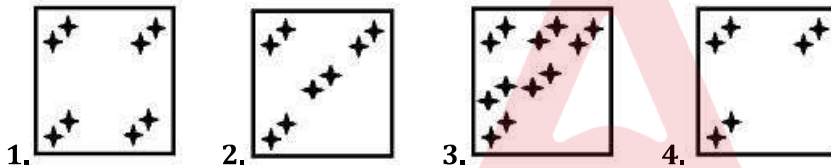
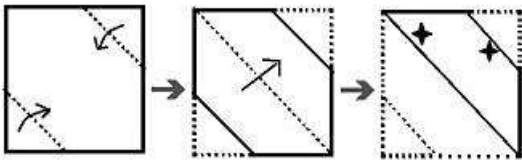
Q.16)- दिए गए विकल्पों में से, उस उचित विकल्प का चयन करें, जो निम्न श्रेणी में प्रश्नवाचक चिह्न (?) के स्थान पर होगा।

83, 74, 66, 59, 53, ?, 44, 41

1. 42 2. 44 3. 48 4. 50

Q.17)-

निम्न आकृति में दिखाए अनुसार किसी कागज को मोड़ा और काटा जाता है। खोलने पर यह कागज किस प्रकार प्रतीत होगा?



Q.18)- निम्न शब्दों को तार्किक और सार्थक क्रम में व्यवस्थित करें।

1. घुटना
2. उंगली
3. गर्दन
4. बाल
5. पैरों की उंगलियां

1. 3, 4, 5, 1, 2 2. 4, 3, 1, 5, 2 3. 5, 3, 1, 2, 4 4. 5, 1, 2, 3, 4

Q.19)- यदि '+' का अर्थ '-' है, '-' का अर्थ '+' है, '÷' का अर्थ '×' है, '×' का अर्थ '÷' है, तो $8 \div 6 < 2 > (10 > 5) + 4$ का मान ज्ञात करें।

1. 10 2. 8 3. 12 4. 16

Q.20)- किसी परीक्षा में, आरती को शीला की तुलना में दोगुना अंक प्राप्त हुए। शीला को चिंता से अधिक अंक प्राप्त हुए। चिंता को तरन से कम अंक प्राप्त हुए। तरन को इला से कम अंक प्राप्त हुए। इला को शीला से कम लेकिन चिंता से अधिक अंक प्राप्त हुए। इनमें से किसे इला से अधिक अंक प्राप्त हुए?

1. शीला और तरन 2. आरती और शीला 3. आरती और तरन 4. शीला और चिंता

Q.21)- अखिल, शीतल का भाई है। शीतल, रोहन की माँ है। महेश, रोहन का भाई है। महेश, अखिल से किस प्रकार संबंधित है?

1. भाई 2. चचेरा भाई 3. भांजा 4. पिता

Q.22)- निम्न समीकरण को संतुलित करने के लिए चिह्नों के सही क्रम का चयन करें।

$$8 _ 4 _ 2 _ 6 _ 3 = 19$$

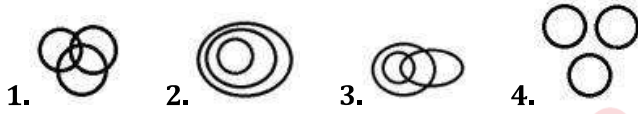
1. +, ×, - और ÷ 2. ×, ÷, + और - 3. ×, ÷, - और + 4. ÷, +, - और ×

Q.23)- जोसेफ, अपने घर से अपने विद्यालय की ओर चलना शुरू करता है। पहले वह पश्चिम की ओर 2 km जाता है और फिर दक्षिणावर्त दिशा में 90° मुड़ता है और अपने विद्यालय तक पहुंचने के लिए 2 km चलता है। उसके विद्यालय से उसका घर किस दिशा में है?

1. दक्षिण-पूर्व 2. उत्तर 3. उत्तर-पश्चिम 4. दक्षिण

Q.24)-

उस वेन आरेख का चयन करें, जो निम्न वर्गों के मध्य संबंध का सर्वश्रेष्ठ निरूपण करता है।
उद्यमी, महिलाएं, समाज-सेवी



Q.25)- दो कथनों के बाद दो निष्कर्ष I, II, दिए गए हैं। यह मानते हुए कि कथनों में दी गई जानकारी सत्य है, भले ही ये सामान्य रूप से ज्ञात तथ्यों से भिन्न प्रतीत होती हों, निर्धारित करें कि कौन-सा/से निष्कर्ष कथनों का तार्किक रूप से अनुसरण करता/करते हैं।

कथन:

कुछ सेब, केले हैं।

कुछ आम, सेब हैं।

निष्कर्ष:

(I) कुछ आम, केले हैं।

(II) कुछ केले, सेब हैं।

1. न तो निष्कर्ष I न ही II अनुसरण करता है।
2. या तो निष्कर्ष I या तो II अनुसरण करता है।
3. केवल निष्कर्ष II अनुसरण करता है।
4. केवल निष्कर्ष I अनुसरण करता है।

Q.26)- In a class, 80% of the students passed in an examination. Out of these successful candidates, 27% of the students passed in the first division and 43% passed in the second division. A total of 90 students failed in the examination. How many students from the class passed in the third division?

1. 120 2. 108 3. 125 4. 110

Q.27)- दिए गए पैटर्न का ध्यानपूर्वक अध्ययन कीजिए और तीसरी पंक्ति में प्रश्न चिह्न (?) के स्थान पर आनेवाली उचित संख्या का चयन कीजिए।

पंक्ति1 : 6, 3, 5, 30

पंक्ति2 : 1, 4, 3, 4

पंक्ति3 : 9, 2, 4, ?

1. 72 2. 24 3. 36 4. 18

Q.28)- अन्विता की मोबाइल कंपनी, कॉल के प्रथम 5 मिनट हेतु ₹2 और प्रथम 5 मिनट के बाद 35 पैसे प्रति मिनट शुल्क लेती है। यदि अन्विता से, अपने दोस्त को कॉल करने के लिए, कुल ₹9 का शुल्क लिया गया, तो कॉल की अवधि (मिनट में) ज्ञात करें।

1. 20 2. 15 3. 25 4. 27

Q.29)- तीन कथनों के बाद तीन निष्कर्ष I, II और III दिए गए हैं। यह मानते हुए कि कथनों में दी गई जानकारी सत्य है, भले ही ये सामान्य रूप से ज्ञात तथ्यों से भिन्न प्रतीत होती हों, निर्धारित करें कि कौन-सा/से निष्कर्ष कथनों का तार्किक रूप से अनुसरण करता/करते हैं।

कथन:

कुछ बिल्लियां, कुत्ते हैं।

कुछ कुत्ते, चूहे हैं।

सभी चूहे, बाघ हैं।

निष्कर्ष:

I. कुछ बाघ, बिल्लियां हैं।

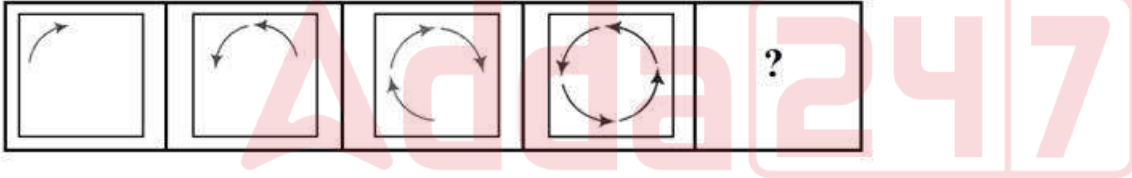
II. कुछ बाघ, कुत्ते हैं।

III. कुछ चूहे, कुत्ते हैं।

1. केवल निष्कर्ष II और III अनुसरण करते हैं।
2. केवल निष्कर्ष I और II अनुसरण करते हैं।
3. केवल निष्कर्ष I और III अनुसरण करते हैं।
4. केवल निष्कर्ष I अनुसरण करता है।

Q.30)-

निम्न आकृति-श्रृंखला में प्रश्नवाचक चिह्न (?) के स्थान पर कौन-सी आकृति आएगी?



- 1.
- 2.
- 3.
- 4.

Q.31)- यूरोपियन चैंपियनशिप गोल्ड में छह देशों के झंडों को स्तंभों के शीर्ष पर निम्न प्रकार से लगाया गया था:

अर्जेंटीना का झंडा, पुर्तगाल के द्विरंगी झंडे के बाईं ओर और फ्रांस के झंडे के दाईं ओर था।

इंग्लैंड का झंडा, पुर्तगाल के झंडे के दाईं ओर लेकिन जर्मनी के झंडे के बाईं ओर था, जो स्पेन के झंडे के बाईं ओर था।

कौन से दो झंडे बीच में थे?

1. अर्जेंटीना और इंग्लैंड
2. अर्जेंटीना और पुर्तगाल
3. जर्मनी और इंग्लैंड 4. पुर्तगाल और इंग्लैंड

Q.32)- 'A + B' का मतलब 'A, B की पत्नी है'।

'A - B' का मतलब 'A, B का पिता है'।

'A × B' का मतलब 'A, B का पुत्र है'।

'A ÷ B' का मतलब 'A, B का भाई है'।

यदि $P + K - R + J \div M \times T + Z$ है, तो निम्न में से कौन-सा कथन सही है?

1. K, M का पिता है 2. P, J की माँ है 3. Z, J का पिता है 4. R, T की पुत्री है।

Q.33)- एक सुबह कॉलेज जाते समय, पलक चौराहे पर अपनी सहेली लीला से मिलती है। जब वे एक दूसरे का अभिवादन करती हैं, तब पलक देखती है कि लीला की परछाई, उसके (पलक के) ठीक दाईं ओर है। अपने कॉलेज जाने के लिए पलक किस दिशा में जा रही थी?

1. पश्चिम 2. दक्षिण 3. उत्तर 4. पूर्व

Q.34)- यदि अंग्रेजी वर्णमाला श्रेणी के पहले आधे भाग को उल्टे क्रम में लिखा जाए और शेष आधी वर्णमालाओं को मूल क्रम में रखा जाए, तो निम्न में से कौन सा अक्षर दाईं ओर से दसवें अक्षर के बाईं ओर सातवां अक्षर होगा?

1. N 2. B 3. A 4. D

Q.35)- यदि किसी कूट भाषा में, LIST को 48 और GUILT को 66 लिखा जाता है, तो उसी कूट भाषा में PROSE को किस प्रकार लिखा जाएगा?

1. 65 2. 62 3. 56 4. 59

Q.36)- उस विकल्प का चयन करें, जो दिए गए शब्दों का अंग्रेजी शब्दकोश के अनुसार उनका सही क्रम निरूपित करता है।

1. Nominate
2. Nomenclature
3. Novice
4. Nectar
5. Nocturnal

1. 4, 5, 2, 3, 1 2. 4, 2, 5, 1, 3 3. 3, 5, 2, 1, 4 4. 4, 5, 2, 1, 3

Q.37)- निम्न में से कौन-सी संख्या दी गई श्रेणी में प्रश्नवाचक चिह्न (?) के स्थान पर होगी?

14, 45, 138, ?, 1254

1. 170 2. 451 3. 211 4. 417

Q.38)- रिक्त स्थान को भरने के लिए सही विकल्प का चयन करें और दी गई श्रेणी को पूर्ण करें।

TQR, SNQ, RKP, _____

1. TPM 2. QHO 3. QAQ 4. AUX

Q.39)- किसी निश्चित कोड भाषा में 'se mi da' का मतलब 'I have friends' होता है, 'la ki se' का मतलब 'Friends are good' होता है तथा 'na de ki' का मतलब 'She is good' होता है। इसी भाषा में 'are' के लिए क्या कोड होगा?

1. la 2. se 3. ki 4. da

Q.40)- दिए गए विकल्पों में से उस संख्या का चयन करें, जो निम्न श्रृंखला में प्रश्नवाचक चिह्न (?) के स्थान पर आ सकती है।

19, 39, 77, 155, ?

1. 236 2. 311 3. 288 4. 309

Q.41)- निम्न श्रेणी में प्रश्नवाचक चिह्न (?) के स्थान पर कौन-सी संख्या होगी?

1, 1, 2, 4, 7, 11, 16, ?, 29, 37

1. 22 2. 23 3. 19 4. 17

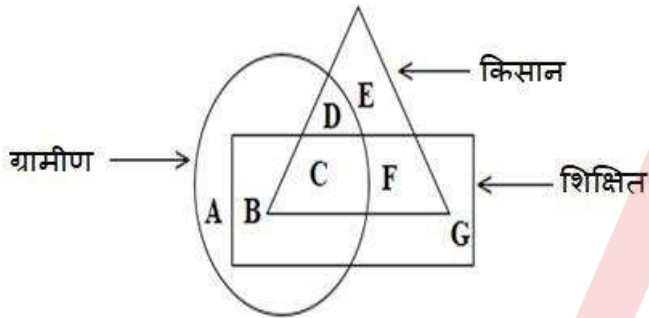
Q.42)- चार अक्षर-समूह दिए गए हैं, जिनमें से तीन किसी प्रकार समान हैं, और एक भिन्न है। भिन्न अक्षर-समूह का चयन करें।

1. GABA
2. FEMA
3. LURO
4. ZOON

1. LURO 2. ZOON 3. GABA 4. FEMA

Q.43)-

दिए गए वेन आरेख का अध्ययन करें और उससे संबंधित प्रश्न का उत्तर दें।



कौन-सा खंड उन अशिक्षित ग्रामीणों को दर्शाता है, जो किसान हैं?

1. E 2. D 3. F 4. C

Q.44)- मोहन, अपने घर से पूर्व की ओर चलना शुरू करता है और अपनी दाईं ओर मुड़ने से पहले 90 मीटर चलता है। वह फिर 20 मीटर चलता है, फिर से दाईं ओर मुड़ता है और 30 मीटर चलता है। वहां से वह उत्तर की ओर मुड़ता है और अपनी यात्रा समाप्त करने के लिए 100 मीटर चलता है। अब इस स्थान से उसका घर किस दिशा में है?

1. उत्तर-पश्चिम 2. दक्षिण-पूर्व 3. दक्षिण-पश्चिम 4. उत्तर-पूर्व

Q.45)- Four words have been given, out of which three are alike in some manner and one is different. Choose the odd one.

1. Megabyte
2. Petabyte
3. Terabyte
4. Kilobit

1. Terabyte 2. Kilobit 3. Petabyte 4. Megabyte

Q.46)- दिए गए विकल्पों में से, उस एक उचित विकल्प का चयन करें, जो निम्न श्रेणी में प्रश्नवाचक चिह्न (?) के स्थान पर होगा।

2, 8, 4, 16, 16, 32, ?, 64

1. 64 2. 184 3. 256 4. 126

Q.47)- उस विकल्प का चयन करें, जो तीसरे अक्षर-समूह से ठीक उसी प्रकार संबंधित है, जिस प्रकार दूसरा अक्षर-समूह पहले अक्षर-समूह से संबंधित है।
LEMON : MDOMQ :: AXILE : ?

1. BVJKH 2. BWKJH 3. BWLJH 4. BVKJH

Q.48)- किसी निश्चित कूट भाषा में, 'CANDIDATE' को 'DNACIETAD' लिखा जाता है। उसी कूट भाषा में 'FERMENTED' को किस प्रकार लिखा जाएगा?

1. MREFEDETN 2. MFRFENETD 3. RMEFENETD 4. FREMEDTTN

Q.49)- जॉन, मैरी का पिता है तथा जोसफ, मायरा का पुत्र है। ईशु, जॉन का भाई है। जोसफ, मैरी का इकलौता भाई है। मायरा ईशु से किस प्रकार संबंधित है?

1. पत्नी 2. चचेरी बहन 3. भाभी 4. बहन

Q.50)- किसी कक्षा में, शीना का अनुक्रमांक शीर्ष से आठवां और सुष्मित का अनुक्रमांक नीचे से ग्यारहवां है। यदि उनके बीच नौ छात्र हैं, तो कक्षा में छात्रों की कुल संख्या ज्ञात करें।

1. 26 2. 29 3. 28 4. 24

General Awareness

Q.1)- निम्न में से किस भारतीय को ब्रिटिश राजतंत्र द्वारा नाइटहुड की उपाधि दी गई थी, लेकिन जलियांवाला नरसंहार के बाद उन्होंने इसे वापस कर दिया था?

1. चित्तरंजन दास 2. बिपिन चंद्र पाल 3. रवींद्रनाथ टैगोर 4. सी. राजगोपालाचारी

Q.2)- निम्न में से किस भारतीय रक्षा या अर्धसैनिक बल ने मार्च 2020 में, एक विशेष 'शक्ति पुरस्कार' की स्थापना की है, जिसे प्रतिवर्ष महिलाओं के सशक्तीकरण के लिए काम करने वाले चुने हुए कर्मिक को दिया जाएगा?

1. केंद्रीय औद्योगिक सुरक्षा बल (CISF)
2. भारतीय सेना 3. केंद्रीय रिजर्व पुलिस बल (CRPF)
4. भारतीय तटरक्षक बल (ICG)

Q.3)- _____ वह प्रक्रिया है, जिसके द्वारा चट्टान खंडित होकर पृथ्वी की सतह पर तलछट, कीचड़, मिट्टी और पदार्थ के रूप में परिवर्तित हो जाते हैं और जो पानी में घुल जाते हैं।

1. लोएस (Loess) 2. निक्षालन (Leaching) 3. अपक्षयण (Weathering) 4. अपरदन (Erosion)

Q.4)- मई 2020 में निम्न में से किसे भारतीय खाद्य सुरक्षा एवं मानक प्राधिकरण (FSSAI) का मुख्य कार्यकारी अधिकारी नियुक्त किया गया था?

1. अरुण सिंघल 2. नरेंद्र बत्रा 3. जीएसजी अय्यंगर 4. सिद्धार्थ मुखर्जी

Q.5)- निम्न व्यक्तियों में से किसे 'उड़नपरी' के नाम से भी जाना जाता है?

1. कल्पना चावला 2. पी.टी. उषा 3. दुती चंद 4. पी.यू. चित्रा

Q.6)- निम्न खिलाड़ियों में से किसने, पुरुषों के लिए हॉकी इंडिया ध्रुव बत्रा प्लेयर ऑफ द ईयर अवार्ड 2019 जीता?

1. पी.आर. श्रीजेश 2. कृष्ण बी. पाठक 3. रुपिंदर पाल सिंह 4. मनप्रीत सिंह

Q.7)- भारत में विद्युत उत्पादन में निम्न में से किस ईंधन का योगदान सर्वाधिक है?

1. डीजल 2. प्राकृतिक गैस 3. कोयला 4. नाभिकीय ऊर्जा

Q.8)- The amoeba pushes out one or more finger-like projections called _____ or false feet for movement and capture of food.

1. endoplasm
2. contractile vacuole
3. food vacuoles
4. pseudopodia

Q.9)- जनवरी 2020 में केरल सरकार द्वारा जीवी राजा पुरस्कार से सम्मानित पी.सी. तुलसी, निम्न में से किस खेल की एक पेशेवर खिलाड़ी हैं?

1. बैडमिंटन
2. वॉलीबॉल
3. टेबल टेनिस
4. बास्केटबॉल

Q.10)- BCG, क्षय रोग (tuberculosis) के लिए लगाया जाने वाला टीका है। BCG का पूर्ण रूप क्या है?

1. बैक्टीरियल कैलमेट-गुएरिन (Bacterial Calmette-Guerin)
2. बैसिलस कैल्सीवीरीडी-गुएरिन (Bacille Caliciviridae-Guerin)
3. बैसिलस कैलमेट-गुएरिन (Bacille Calmette-Guerin)
4. बेसिलम कैल्सीवीरीडी-गुएरिन (Bacillum Caliciviridae-Guerin)

Q.11)- बामुनी पहाड़ियाँ निम्न में से किस राज्य में फैली हुई हैं?

1. राजस्थान
2. मध्य प्रदेश
3. असम
4. उत्तर प्रदेश

Q.12)- निम्न में से कौन-सा हमारे सौर मंडल का बौना ग्रह नहीं है?

1. सेरेस
2. मेकमेक
3. क्यूपिड
4. हौमिया

Q.13)- Orders and other instruments made and executed in the name of the President are to be authenticated:

1. by the Prime Minister
2. by the Minister concerned
3. in such manner as may be specified in rules made by the President
4. by the President

Q.14)- एंजाइम लिंकड इम्यूनो-सोरबेंट एसे (ELISA) नैदानिक परीक्षण निम्न में से किसके लिए किया जाता है?

1. प्रोस्टेट कैंसर
2. पार्किन्सन रोग
3. एक्वायर्ड इम्यूनो डेफिशियेंसी सिंड्रोम
4. ट्यूबरकुलोसिस

Q.15)- निम्न में से कौन-सी मिट्टी, काजू के पेड़ को उगाने के लिए उपयुक्त है?

1. जंगली मिट्टी
2. काली मिट्टी
3. जलोढ़ मिट्टी
4. बलुई दोमट मिट्टी

Q.16)- निम्न में से कौन-सा अनुच्छेद संसद के दोनों सदनों के सत्र में न होने पर भारत के राष्ट्रपति को अध्यादेश जारी करने का अधिकार देता है?

1. 124
2. 122
3. 123
4. 121

Q.17)- निम्न में से कौन-सा उस समय होता है, जब मौजूदा खर्च, मानक संचालन के माध्यम से प्राप्त आय से अधिक हो जाता है?

1. बजट अधिशेष (Budget surplus)
2. बजट घाटा (Budget deficit)
3. बजट भिन्नता (Budget variance)

4. बजटीय स्लैक (Budgetary slack)

Q.18)- निम्न में से कौन 'फीयर: ट्रंप इन द व्हाइट हाउस (Fear: Trump in the White House)' नामक पुस्तक के लेखक हैं?

1. रिचर्ड पॉवर्स 2. विल ईव्स 3. क्लेयर एडम 4. बॉब वुडवर्ड

Q.19)- पारसी समुदाय के नवरोज त्यौहार के अंतर्गत मेहर नामक एक देवता की पूजा की जाती है। यह देवता, निम्न में से किसका अधिष्ठातृ देवता माना जाता है?

1. ब्रह्मांड 2. पृथ्वी 3. चंद्रमा 4. सूर्य

Q.20)- उस्ताद अमजद अली खान निम्न में से कौन-सा संगीत वाद्ययंत्र बजाते हैं?

1. तबला 2. सितार 3. शहनाई 4. सरोद

Q.21)- निम्न में से किसने कल्पित कथा (fiction) 'नोड्डी एंड हिज कार (Noddy and His Car)' लिखी है?

1. एनिड ब्लाइटन 2. लियो टॉल्स्टॉय 3. रस्किन बॉन्ड 4. जे.के. राउलिंग

Q.22)- मानव शरीर के निम्न में से किस अंग से संबंधित विषय को हेपेटोलॉजी कहा जाता है?

1. मस्तिष्क (Brain) 2. फेफड़े (Lungs) 3. यकृत (Liver) 4. श्रोणि (Pelvis)

Q.23)- शुष्क बर्फ _____ का ठोस रूप है।

1. कार्बन डाइऑक्साइड 2. हाइड्रोजन 3. नाइट्रोजन 4. ऑक्सीजन

Q.24)- एशिया विकास बैंक ने दिसंबर 2020 में भारत के निम्न में से किस राज्य के लिए लोअर कोपिली हाइड्रोइलेक्ट्रिक पावर (LKHEP) संयंत्र का निर्माण करने हेतु \$231 मिलियन के ऋण की मंजूरी दी है?

1. राजस्थान 2. झारखंड 3. गुजरात 4. असम

Q.25)- किस वर्ष सांची को यूनेस्को (UNESCO) विश्व धरोहर स्थल के रूप में घोषित किया गया था?

1. 1989 2. 1998 3. 2001 4. 1994

Q.26)- मध्य-प्रशांत महासागर से गुजरने वाली यामोत्तर रेखा जो कि _____ डिग्री देशांतर का अनुसरण लगभग करती है, उसको अंतरराष्ट्रीय तिथि रेखा कहा जाता है।

1. 165 2. 150 3. 180 4. 135

Q.27)- संविधान का निम्न में से कौन-सा अनुच्छेद, राज्य की लोक सेवाओं में न्यायपालिका को कार्यपालिका से पृथक रखने के लिए कदम उठाने हेतु राज्य को निर्देशित करता है?

1. अनुच्छेद 57 2. अनुच्छेद 47 3. अनुच्छेद 50 4. अनुच्छेद 37

Q.28)- 31 मई 2020 तक की स्थिति के अनुसार, भारत के मुख्य सूचना आयुक्त कौन थे?

1. दिव्य प्रकाश सिन्हा 2. सुरेश चंद्र 3. नीरज कुमार गुप्ता 4. बिमल जुल्का

Q.29)- 'भाषाई सरलता के साथ एक प्रभावी कार्य, जिससे मानव अनुभव की परिधि और विशिष्टता का पता चला है' (for an influential work that with linguistic ingenuity has explored the periphery and the specificity of human experience) के लिए 2019 में साहित्य का नोबेल पुरस्कार किसे मिला था?

1. ओल्गा टोकरजुक 2. जेम्स पीबल्स 3. डिडिएर क्वेलोज 4. पीटर हैंडके

Q.30)- पानी के अंदर, ध्वनिक संकेतों का पता लगाने के लिए _____ का उपयोग किया जाता है।

1. बोलोमीटर (bolometer) 2. ऐमीटर (ammeter) 3. पाइरोमीटर (pyrometer) 4. हाइड्रोफोन (hydrophone)

Q.31)- निम्न में से कौन एशिया का सबसे बड़ा तारामंडल है?

1. नेहरू तारामंडल, नई दिल्ली
2. बिड़ला तारामंडल, कोलकाता
3. बिड़ला तारामंडल, हैदराबाद
4. नेहरू तारामंडल, मुंबई

Q.32)- निम्न में से कौन-सा मोती का मुख्य घटक है?

1. कैल्शियम सल्फेट 2. कैल्शियम कार्बोनेट 3. सोडियम बाइकार्बोनेट 4. मैग्नीशियम पेरोक्साइड

Q.33)- अगस्त 2020 तक की स्थिति के अनुसार, निम्न में से कौन भारतीय खेल प्राधिकरण के/की महानिदेशक हैं?

1. संदीप प्रधान 2. संगीता रेड्डी 3. नरेंद्र बत्रा 4. नीलम कपूर

Q.34)- निम्न में से कौन-सी बीमारी, मानव खुजली घुन (human itch mite) के कारण होती है?

1. हर्पीस (Herpes) 2. स्कैबीज (Scabies) 3. रूबेला (Rubella) 4. मीजल्स (Measles)

Q.35)- अगस्त 2019 में, कपिल देव की अध्यक्षता वाली क्रिकेट सलाहकार समिति (CAC) द्वारा 2021 तक भारतीय पुरुष क्रिकेट टीम के मुख्य कोच के रूप में किसे पुनःनियुक्त किया गया है?

1. जॉन राइट 2. रवि शास्त्री 3. गैरी कस्टर्न 4. अनिल कुंबले

Q.36)- निम्न में से कौन-सा राष्ट्र, द्वितीय विश्व युद्ध में 'एलाइड पॉवर्स (मित्रपक्ष शक्तियाँ)' नामक गठबंधन का भाग था?

1. जापान 2. जर्मनी 3. इटली 4. सोवियत संघ

Q.37)- वह खारे पानी की झील क्या कहलाती है, जो सैंडबार (sandbars) और स्पिट (spits) की मदद से समुद्र से अलग होती है?

1. लैगून 2. हिमनद 3. झील 4. ज्वारनदीमुख

Q.38)- निम्न में से किस नदी को छोड़कर, बाकी सभी नदियां पश्चिमी घाट से निकलती हैं?

1. गोदावरी 2. कावेरी 3. महानदी 4. कृष्णा

Q.39)- आमेर के शासक सवाई जयसिंह को, 'जंतर मंतर' नामक पाँच खगोलीय वेधशालाओं का निर्माण करने के लिए जाना जाता है। निम्न में से किस शहर में इनमें से कोई भी वेधशाला नहीं है?

1. उज्जैन 2. उदयपुर 3. मथुरा 4. वाराणसी

Q.40)- मई 2020 तक की स्थिति के अनुसार, कितने देश विश्व बैंक के सदस्य हैं?

1. 119 2. 256 3. 189 4. 231

Q.41)- अनुच्छेद 213 के तहत घोषित अध्यादेश को _____ द्वारा वापस लिया जा सकता है।

1. विधान परिषद के सभापति 2. राज्यपाल 3. विधानसभा अध्यक्ष 4. राष्ट्रपति

Q.42)- आधुनिक भारतीय इतिहास के संदर्भ में, बॉम्बे प्लान (1944) की अभिव्यक्ति _____ पर प्रस्तावित थी।

1. आर्थिक विकास 2. प्रशासनिक पुनर्गठन 3. सत्ता हस्तांतरण 4. पंचायती राज

Q.43)- वह ब्याज दर को क्या कहा जाता है, जिस पर किसी देश का केंद्रीय बैंक, घरेलू बैंकों को धन उधार देता है, जो अक्सर अल्पकालिक ऋण के रूप में होता है?

1. रिवर्स रेपो दर 2. बैंक दर 3. नकद दर 4. रेपो दर

Q.44)- 1925 के काकोरी षड्यंत्र में शामिल होने के कारण निम्न में से किसे फांसी की सजा दी गई थी?

1. चंद्रशेखर आज़ाद 2. शिवराम हरि राजगुरु 3. भगत सिंह 4. अशफाकुल्ला खान

Q.45)- निम्न में से किस वर्ष में, भारत में एक 'हिंदू संगठन', हिंदू महासभा की स्थापना एक संगठन के रूप में की गई थी?

1. 1935 2. 1940 3. 1915 4. 1957

Q.46)- निम्न में से कौन-सा राष्ट्र/राजशाही, प्रथम विश्व युद्ध में 'केंद्रीय शक्तियों (Central Powers)' नामक गठबंधन का एक हिस्सा था?

1. फ्रांस 2. ब्रिटेन 3. रूस 4. ऑस्ट्रिया-हंगरी

Q.47)- आम चुनाव 2019 तक की स्थिति के अनुसार, गोवा राज्य को कितनी लोकसभा सीटें आवंटित की गईं?

1. 5 2. 12 3. 2 4. 7

Q.48)- योगेश गौड़ को किस क्षेत्र में उनके योगदान के लिए जाना जाता है, जिनकी मई 2020 में मृत्यु हो गई?

1. ज्योतिष शास्त्र 2. संगीत 3. विज्ञान 4. नृत्य

Q.49)- निम्न में से किस शहर में विरासत-ए-खालसा नामक संग्रहालय स्थित है?

1. अमृतसर 2. पांवटा साहिब 3. आनंदपुर साहिब 4. नादेड़

Q.50)- सुभाष चंद्र बोस द्वारा आज़ाद हिंद सरकार की स्थापना कब की गई थी?

1. 21 अक्टूबर 1943 2. 12 अगस्त 1934 3. 23 दिसंबर 1945 4. 16 जनवरी 1939

English Language and Comprehension

Q.1)- Identify the segment in the sentence which contains a grammatical error.
I will come to yours house in the evening to play chess.

1. I will come 2. to play chess 3. to yours house 4. in the evening

Q.2)- Select the most appropriate meaning of the given idiom.
Hold one's tongue

1. To say a tongue-twister
2. To keep quiet
3. To talk continuously
4. To be shocked

Q.3)- Select the most appropriate option to fill in the blank.

It is quite hot today but it was ____ yesterday.

1. most hot
2. more hotter
3. hottest
4. hotter

Q.4)- Select the correct indirect form of the given sentence.

Anurag said to me, "I am going to the store to buy milk and vegetables."

1. Anurag asked me if I was going to the store to buy milk and vegetables.
2. Anurag told me that he is going to the store to buy milk and vegetables.
3. Anurag told me that I am going to the store to buy milk and vegetables.
4. Anurag told me that he was going to the store to buy milk and vegetables.

Q.5)- Select the most appropriate synonym of the given word.

Haste

1. Hurry
2. Rest
3. Delay
4. Leisure

Q.6)- Select the option that expresses the given sentence in reported speech.

Albus said to his friends, "Everyone is staring at us again."

1. Albus told his friends that everyone was staring at them again.
2. Albus was told by his friends that everyone is staring at them again.
3. Albus informed his friends everyone was staring at us again.
4. His friends were told by Albus that everyone was staring at us again.

Q.7)- In the sentence identify the segment that contains a grammatical error.

In today's world new ways of teaching young children have to be adopting.

1. today's world
2. new ways of
3. have to be adopting
4. teaching young children

Q.8)- Select the most appropriate meaning of the given idiom.

Chill out

1. Relax completely
2. Eat spicy food
3. Feel very cold
4. Become stiff

Q.9)- Select the option that expresses the given sentence in reported speech.

The captain said, "What are we doing on the pitch if we are not playing?"

1. The captain asks what they are doing on the pitch if they are not playing.
2. The captain asked what are we doing on the pitch if we are not playing.
3. The captain asked what they were doing on the pitch if they were not playing.
4. The captain wanted to know what were they doing on the pitch if they are not playing.

Q.10)- Select the most appropriate option to fill in the blank.
Thank you for your _____ to speak at the conference in March.

1. invitation
2. introduction
3. inclusion
4. conclusion

Q.11)- Select the correct active form of the given sentence.
We shall be blamed by everyone.

1. Everyone shall have blamed us.
2. Everyone shall blame us.
3. Everyone shall be blaming us.
4. Everyone can blame us.

Q.12)- There is an underlined segment in the given sentence. Select the most appropriate option to substitute the segment. If there is no need to substitute it, select 'No substitution required'.
Few women over fifty exercise regularly because they were too busy with work or feel self-conscious.

1. they are very busy
2. they were not very busy
3. No substitution required
4. they are not too busy

Q.13)- Select the correct passive voice of the given sentence.
Did anyone inform you about the changed schedule?

1. Were you informed by anyone about the changed schedule?
2. Were you being informed by anyone about the changed schedule?
3. Are you informed by anyone about the changed schedule?
4. Have you been informed by anyone about the changed schedule?

Q.14)- Given here are four sentences. The first sentence is in correct order while the rest of the sentences are jumbled. Pick the option that gives their correct order.

- A. Environmental engineers are always trying to find solutions to the problem of pollution.
- B. They also have to deal with medical waste and radioactive leakages.
- C. The pollution caused by chemicals, oil spills, hazardous and toxic waste is especially dangerous.
- D. We can help them by avoiding such pollutants and by segregating waste for easy processing.

1. ABCD
2. ABDC
3. ACBD
4. ADBC

Q.15)- Select the correct active form of the given sentence.
How much was paid by you for this watch?

1. How much are you paying for this watch?
2. How much have you paid for this watch?
3. How much did you pay for this watch?
4. How much were you paid for this watch?

Q.16)- Select the option that expresses the given sentence in active voice.
The fifty thousand mark has been crossed by Sensex in the last few days.

1. The last few days have crossed the fifty thousand mark in Sensex.
2. The fifty thousand mark has crossed Sensex in the last few days.
3. Sensex has crossed the fifty thousand mark in the last few days.
4. Sensex has been crossed in the last few days by the fifty thousand mark.

Q.17)- There is an underlined segment in the given sentence. Select the most appropriate option to substitute the segment. If there is no need to substitute it, select 'No substitution required'.

Very little people seem to realise the value of savings.

1. Very much people
2. Very many people
3. Very few people
4. No substitution required

Q.18)- Given here are four sentences. The first sentence is in correct order while the rest of the sentences are jumbled. Pick the option that gives their correct order.

- A. Basking in the sun for some time regularly is recommended for improving one's physical condition.
- B. One should, however, exercise caution while exposing oneself to the sun.
- C. To be more specific, it builds up resistance to infections and tones up the whole system.
- D. This is because too much exposure to the sun may prove harmful to health.

1. ACDB
2. ACBD
3. ABCD
4. ADBC

Q.19)- The following sentence has been split into four segments. Identify the segment that contains a grammatical error.

She seemed / to be / in hurry / to leave.

1. to be
2. in hurry
3. She seemed
4. to leave

Q.20)- Identify the segment in the sentence which contains a grammatical error.

These girls have been living in this flat since five years.

1. in this flat
2. have been living
3. since five years
4. These girls

Q.21)- Select the most appropriate option to substitute the underlined segment in the given sentence. If no substitution is required, select 'No substitution required'.

The cyclone have worsen the situation in Mumbai.

1. has worsening
2. No substitution required
3. has worsened
4. have worsened

Q.22)- The following sentence has been split into four segments. Identify the segment that contains a grammatical error.

A pack of wolves / were chasing / the deer / in the forest.

1. were chasing
2. A pack of wolves
3. the deer
4. in the forest

Q.23)- Select the most appropriate option to improve the underlined segment in the given sentence. If there is no need to improve it, select 'No improvement required'.

Footballers run from one corner of the field to other.

1. to another
2. No improvement required
3. on the other
4. through others

Q.24)- In the sentence identify the segment that contains a grammatical error.
Suman told me that she didn't know how to operates her net banking account.

1. how to
2. she didn't know
3. told me
4. operates

Q.25)- Select the option that expresses the given sentence in passive voice.
Dalal Street houses the headquarters of Bombay Stock Exchange.

1. The headquarters of Bombay Stock Exchange is housed by Dalal Street.
2. Dalal Street is housed the headquarters of Bombay Stock Exchange.
3. The headquarters of Bombay Stock Exchange are housed on Dalal Street.
4. The headquarters of Bombay Stock Exchange is being housed on Dalal Street.

Q.26)- Given here are four sentences. The first sentence is in correct order, while the rest of the sentences are jumbled. Pick the option that gives their correct order.

- A. Residents in Ryde, Isle of Wight have been living with a stench from rotting seaweed, which smells like raw sewage.
B. Diggers have been brought in to scoop about 300 tonnes of the washed-up seaweed off the beach.
C. The warm weather has made the odour from the seaweed so pungent it is making people feel sick.
D. It will be taken to agricultural fields on the west of the island and used as fertilizer.

1. ABDC
2. ACBD
3. ABCD
4. ADBC

Q.27)- Select the most appropriate option to fill in the blank.

My talk will be on improving the ____ skills of students in English.

1. school
2. communication
3. substitution
4. college

Q.28)- Select the most appropriate ANTONYM of the given word.

Obstinate

1. Willful
2. Flexible
3. Firm
4. Loyal

Q.29)- There is an underlined segment in the given sentence. Select the most appropriate option to substitute the segment. If there is no need to substitute it, select 'No substitution required'.

Children should not be given food that contains additives, preservatives, or nothing with chemicals.

1. anything with chemicals
2. nothing chemical
3. anything without chemicals
4. No substitution required

Q.30)- In the given sentence, identify the segment which contains a grammatical error.

While the night we felt afraid as the resort was very dark and secluded.

1. we felt afraid
2. While the night
3. and secluded
4. was very dark

Q.31)- Select the most appropriate ANTONYM of the given word.
INCORPORATE

1. exclude
2. absorb
3. integrate
4. assimilate

Q.32)- Select the option that expresses the given sentence in direct speech.
The women exclaimed that the kids were making too much noise.

1. The woman said, "The kids were making too much noise."
2. The woman said, "How the kids are making too much noise!"
3. The woman said, "How much noise are the kids making!"
4. The woman said, "What noise are the kids making? "

Q.33)- Select the most appropriate meaning of the given idiom.
Take a cue from someone

1. be strongly influenced by someone
2. treat someone as very important
3. wait patiently to listen to someone
4. take someone's position in the queue

Q.34)- Select the correct active voice of the given sentence.
It seems that great progress has been made by many developing nations.

1. It seems that great progress has made many developing nations.
2. It seems that many developing nations have made great progress.
3. It seemed that great progress has been made by many developing nations.
4. It seemed that great progress has made many developing nations.

Q.35)- Select the most appropriate ANTONYM of the given word.
INCREASE

1. collect
2. expand
3. widen
4. diminish

Q.36)- Select the most appropriate synonym of the given word.
ASTONISH

1. simplify
2. surprise
3. cheat
4. create

Q.37)- Fill in the blank with the most appropriate word.
As the sun was setting, the clouds were looking beautiful with myriad _____ colours.

1. differential
2. different
3. difference
4. differently

Q.38)- Given here are four sentences. The first sentence is in correct order, while the rest of the sentences are jumbled. Pick the option that gives their correct order.

- A. It rained heavily last winter and the little stream near our house became a big river.
- B. Luckily the water did not reach any of the houses in our village.

- C. But the river carried away our beautiful wooden bridge.
D. It burst its bank and the fields all round were soon full of water.

1. ACBD 2. ABCD 3. ADBC 4. ABDC

Q.39)- In the given sentence, identify the segment which contains a grammatical error.
I expect each students present here to listen carefully to the instructions I'm giving.

1. I expect 2. to listen carefully 3. I'm giving 4. each students

Q.40)- Select the correct passive voice of the given sentence.
Rabya is learning new ways of treating obesity.

1. New ways of treating obesity were learnt by Rabya.
2. New ways of treating obesity have been learnt by Rabya.
3. New ways of treated for obesity are being learnt by Rabya
4. New ways of treating obesity are being learnt by Rabya.

Q.41)- Select the correct indirect form of the given sentence.
"Aren't you afraid of travelling alone in a foreign country?" I asked Aditi.

1. I asked Aditi whether she was afraid of travelling alone in a foreign country.
2. I asked Aditi if you aren't afraid of travelling alone in a foreign country.
3. I asked Aditi if she wasn't afraid of travelling alone in a foreign country.
4. I asked Aditi whether you are afraid of travelling alone in a foreign country.

Q.42)- The following sentence has been split into four segments. Identify the segment that contains a grammatical error.

The Konark temple / is dedicated / from the / Sun god.

1. The Konark temple 2. from the 3. is dedicated 4. Sun god

Q.43)- Select the correct direct form of the given sentence.

I thanked the stranger and told him that it was very kind of him to have helped me in my need.

1. "Thank you very much," I said to the stranger. "It was kind of you to help him in his need."
2. "Thank you very much," I said to the stranger. "It was kind of him to have helped me in my need."
3. "Thank you very much," I said to the stranger. "How kind of you to have helped me in my need!"
4. "Thank him very much," I said to the stranger. "How kind of him to have helped me in my need!"

Q.44)- In the given sentence, identify the segment that contains a grammatical error.
A community is a group of people who shares a common culture.

1. common culture 2. a group of people 3. A community is 4. who shares a

Q.45)- Select the most appropriate ANTONYM of the given word.
SHRINK

1. apply 2. expand 3. supply 4. resume

Q.46)- Select the correct direct narration of the given sentence.

The government admits that the number of Covid-19 cases is on the rise.

1. "The number of Covid-19 cases is on the rise," the government admits.
2. "The number of Covid-19 cases was on the rise," the government admits.
3. "The number of Covid-19 cases has been rising," the government said.
4. "The number of Covid-19 cases will be on the rise," the government says.

Q.47)- Select the option that expresses the given sentence in reported speech.

David said, "Can someone please explain what is going on?"

1. David said can someone please explain what is going on.
2. David asked whether someone could explain what was going on.
3. David asked if someone can please explain what was going on.
4. David asked that if someone could explain what is going on.

Q.48)- Select the most appropriate synonym of the given word.

ALLEVIATE

1. mitigate
2. agitate
3. irritate
4. aggravate

Q.49)- Select the most appropriate option to fill in the blank.

Don't leave the room _____ I am back.

1. since
2. when
3. while
4. until

Q.50)- Select the correct indirect narration of the given sentence.

My neighbour said to me, "I'm sorry but I will not be able to accompany you to the theatre as my mother is unwell."

1. My neighbour apologised to me saying that she would not be able to accompany me to the theatre as her mother was unwell.
2. My neighbour apologises she will not be able to accompany me to the theatre as her mother is unwell.
3. My neighbour apologised to her saying that she would not be able to accompany me to the theatre as her mother was unwell.
4. My neighbour apologised that she was not being able to accompany me to the theatre as my mother was unwell.

Q.51)- Select the most appropriate option to substitute the underlined segment in the given sentence. If there is no need to substitute it, select 'No substitution'.

You have booked your seats in the next flight, have you?

1. isn't it
2. haven't you
3. No substitution
4. did you

Q.52)- Select the option that arranges the given sentences in the correct sequence. The first sentence is in the correct position.

A. An ancient sage was teaching his disciples the art of archery.

- B. The first disciple was then asked to describe what he saw.
C. He asked his disciples to aim at the eye of the bird.
D. He put a wooden bird as the target on the branch of a tree.

1. ABCD 2. ADCB 3. ACBD 4. ADBC

Q.53)- Select the most appropriate option to substitute the underlined segment in the given sentence. If no substitution is required, select 'No substitution'.

Two stadiums in the city are set to reopened after a gap of 65 days.

1. to be reopens 2. No substitution 3. to reopen 4. for reopen

Q.54)- Select the most appropriate meaning of the given idiom.

Raise an alarm

1. set the alarm clock to wake one up
2. create an alarming situation
3. be punctual and disciplined
4. warn of a dangerous situation

Q.55)- Select the most appropriate synonym of the given word.

DELEGATE

1. detain 2. create 3. possess 4. nominate

Q.56)- Select the most appropriate synonym of the given word.

Deficiency

1. Shortage 2. Excess 3. Success 4. Surplus

Q.57)- Select the most appropriate option to substitute the underlined segment in the given sentence. If no substitution is required, select 'No substitution'.

A deer is likely to attack by lions or tigers throughout its life.

1. going to attack 2. subject to attack 3. No substitution 4. will be attacked

Q.58)- Select the most appropriate option to substitute the underlined segment in the given sentence. If there is no need to substitute it, select 'No substitution'.

I am decided to buy a globe for your birthday.

1. am decide 2. have decided 3. have deciding 4. No substitution

Q.59)- Select the correct indirect narration of the given sentence.

The interviewer asked the female author, "What is your greatest fear?"

1. The interviewer asked the female author what is her greatest fear.
2. The female author told the interviewer what her greatest fear was.
3. The interviewer asked the female author what her greatest fear was.
4. The interviewer told the female author what her greatest fear was.

Q.60)- Select the most appropriate meaning of the given idiom.

Bury the hatchet

1. continue a fight 2. make peace 3. have enmity 4. start a conflict

Q.61)- Select the correct passive form of the given sentence.

The barking of dogs woke up the residents of the slum.

1. The residents of the slum have woken up by the barking of dogs.
2. The residents of the slum are waking up by the barking of dogs.
3. The residents of the slum had been woken up by the barking of dogs.
4. The residents of the slum were woken up by the barking of dogs.

Q.62)- Select the most appropriate option to substitute the underlined segment in the given sentence. If there is no need to substitute it, select 'No substitution'.

My father promised to be bringing a new mobile phone for me.

1. to bring 2. to have brought 3. No substitution 4. for bringing

Q.63)- Select the most appropriate ANTONYM of the given word.

Foreign

1. Strange 2. Distant 3. Alien 4. Native

Q.64)- Select the correct passive form of the given sentence.

Authorities have stepped up efforts to control the invasion of locusts in Rajasthan and Gujarat.

1. Efforts to control the invasion of locusts in Rajasthan and Gujarat were being stepped up by the authorities.
2. Efforts to control the invasion of locusts in Rajasthan and Gujarat were stepped up by the authorities.
3. Efforts to control the invasion of locusts in Rajasthan and Gujarat have been stepped up by the authorities.
4. Efforts to control the invasion of locusts in Rajasthan and Gujarat are being stepped up by the authorities.

Q.65)- Select the option that expresses the given sentence in passive voice.

Do we need high taxes on senior citizens' savings?

1. Do senior citizens need high taxes on their savings?
2. Do we need senior citizens' savings on high taxes?
3. Are senior citizens' high taxes needed for savings?
4. Are high taxes needed on senior citizens' savings?

In the following passage some words have been deleted. Fill in the blanks with the help of the alternatives given. Select the most appropriate option for each blank.

The locust is an insect that belongs to the family of grasshoppers. These insects are essentially harmless (1)_____

they meet certain circumstances under which they (2)_____ more abundant and change their behaviour. India, Pakistan and Iran (3)_____ currently thinking over the locust plague threat (4)_____ over their economies. When these locusts meet (5)_____ environmental conditions, they become gregarious and (6)_____ breeding abundantly. With their population becoming (7)_____, they form swarms and keep moving (8)_____ areas damaging the crops. These swarms attacking (9)_____ and thereby devastating the entire agricultural economy is (10)_____ is commonly referred to as locust plague.

Q.66)- Select the most appropriate option for blank no. 1.

1. after 2. unless 3. although 4. when

Q.67)- Select the most appropriate option for blank no. 2.

1. became 2. are becoming 3. become 4. have become

Q.68)- Select the most appropriate option for blank no. 3.

1. is 2. were 3. are 4. was

Q.69)- Select the most appropriate option for blank no. 4.

1. leaving 2. staying 3. lingering 4. remaining

Q.70)- Select the most appropriate option for blank no. 5.

1. suiting 2. suitably 3. suitable 4. suited

Q.71)- Select the most appropriate option for blank no. 6.

1. create 2. set up 3. launch 4. start

Q.72)- Select the most appropriate option for blank no. 7.

1. most dense 2. much dense 3. densest 4. denser

Q.73)- Select the most appropriate option for blank no. 8.

1. about 2. against 3. across 4. around

Q.74)- Select the most appropriate option for blank no. 9.

1. crops 2. grains 3. seeds 4. flowers

Q.75)- Select the most appropriate option for blank no. 10.

1. who 2. whose 3. whom 4. what

In the given passage some words have been deleted. Fill in the blanks with the help of the options given. Select the most appropriate option for each number.

People are tired of staying indoors in artificial lights in view of the pandemic and (1)_____ a sedentary lifestyle. They are yearning to reconnect with (2)_____ and 'rewilding' is becoming a key trend in 2021. 'Rewilding' is about going (3)_____ to our 'caveman/woman' life by soaking in the sun, (4)_____ barefoot on sand and grass, drinking water from natural (5)_____, and bathing in rivers. The (6)_____ of 'outdoor living' is all about spending time in nature, irrespective of the weather, through simple (7)_____ that are free of cost, like walking, camping, or fishing with loved ones. 'Earthing' is a therapeutic activity, which can be performed (8)_____. All you need to do is to take off your shoes and place your bare feet and hands directly on the (9)_____, whether it is in a park or at the beach. Another trend is the Japanese way to beat stress – 'forest-bathing'. You can 'forest-bathe' wherever there is an (10)_____ of trees, including a nearby park.

Q.76)- Select the most appropriate option to fill in blank number 1.

1. conducting 2. leading 3. affecting 4. effecting

Q.77)- Select the most appropriate option to fill in blank number 2.

1. creation 2. civilisation 3. nature 4. cities

Q.78)- Select the most appropriate option to fill in blank number 3.

1. around 2. into 3. back 4. further

Q.79)- Select the most appropriate option to fill in blank number 4.

1. crawling 2. living 3. walking 4. swimming

Q.80)- Select the most appropriate option to fill in blank number 5.

1. seas 2. flows 3. streams 4. oceans

Q.81)- Select the most appropriate option to fill in blank number 6.

1. concept 2. rule 3. view 4. opinion

Q.82)- Select the most appropriate option to fill in blank number 7.

1. episodes 2. procedures 3. processes 4. activities

Q.83)- Select the most appropriate option to fill in blank number 8.

1. anywhere 2. however 3. somewhere 4. nowhere

Q.84)- Select the most appropriate option to fill in blank number 9.

1. river 2. earth 3. water 4. steps

Q.85)- Select the most appropriate option to fill in blank number 10.

1. abundance 2. breaking 3. scarcity 4. shortage

Read the following passage and answer the questions that follow.

The strain, Tropical Race 4 (TR4), was first identified in Taiwan, and has jumped from Asia to the Middle East and Africa, reaching as far as Latin America. Scientists are describing it as the equivalent of Covid-19 in bananas. As the coronavirus disease outbreak rages on, 'fusarium wilt TR4', a novel fungus strain that has devastated plantations across the globe this year, is setting up new hotspots and threatening output in India, the world's largest producer of bananas. It cripples plantations by first attacking the leaves, which turn yellow from their trailing edges before wilting away. There is no effective remedy yet.

"One could say it is the Covid-19 of the plant world. Hotspots have been found in Bihar and Uttar Pradesh, which we are trying to contain," said S. Uma, the director of National Research Centre for Bananas (NRCB), Trichy.

According to the Food and Agriculture Organization (FAO) of the United Nations, TR4 is one of the 'the most destructive of all plant diseases'. As with Covid-19, there is no treatment yet. So, scientists recommend biosecurity measures including 'plant quarantine' to slow its spread. The spreading disease has jeopardised the \$26 billion global banana trade.

A healthy snack, banana is the world's most globally exported fruit, according to the FAO. That's a reason for worry as the disease is breaching borders through imports.

India produces 27 million tonnes of bananas annually and grows about 100 varieties. TR4 has infected the most commonly sold variety, the one you mostly likely have for breakfast: Grand Nain a curvy yellow fruit.

Inability to contain TR4 could jolt farm incomes and push up banana prices. One medium banana (126 gms) provides about 110 calories, 0 gram fat, 1 gram protein, 28 grams carbohydrate, 15 grams sugar (naturally occurring), 3 grams fibre and 450 mg potassium and trace quantities of vitamin C and B6, according to the Hyderabad-based National Institute of Nutrition.

Most of India's bananas are consumed domestically. Ecuador, the largest exporter, is currently the epicentre and scientists haven't been able to ascertain how TR4 entered India.

Fusarium wilt is not new. It entirely wiped out Gros Michel, the dominant export variety of bananas in 1950s. It was in response to this that a new resistant variety, Grand Nain, came up. That has now fallen to TR4. The challenge is to now identify or develop new resistant varieties. That's the only way to manage it, according to Uma, until an effective agent is found.

The Indian Council of Agricultural Research is advocating a set of measures, known as 'biopriming'. It has asked farmers whose plantations have been affected to abandon them. They must grow rice for a year or two before returning to banana. "That way the chain is broken," said R Selvarajan, a scientist with the NRCB.

Q.86)- After reading this passage it can be said that it is:

1. a technical report
2. a narrative
3. an epilogue
4. a news report

Q.87)- The main theme of the passage is:

1. the nutritious value of bananas
2. the outbreak of a Covid-19 like disease in bananas
3. the impact of disease on banana plantations
4. the measures for containing the banana disease

Q.88)- Which place is the current epicentre of TR4?

1. Equador
2. India
3. Taiwan
4. Middle East

Q.89)- The calorific value of a medium size banana is 110 and it is richest in:

1. fibre
2. carbohydrate
3. potassium
4. protein

Q.90)- 'Biopriming', a measure suggested by the Indian Council of Agricultural Research, requires:

1. trimming the diseased banana plants
2. abandoning banana plantation and growing rice for a year
3. quarantining banana plants
4. identifying hotspots and quarantining them

Read the given passage carefully and answer the questions that follow.

If you pay close attention to soap advertisements, you may hear of its pH value being claimed perfect for human skin. But is there really such a thing? Let's start at the beginning. pH (potential Hydrogen) is defined as the concentration of hydrogen ions in a solution. pH value ranges between 0 and 14. 7 is the neutral point, 0 being the most acidic and 14 being the most alkaline. More importantly, your skin isn't exactly pH 5.5; it falls in a range between 4.0 and 7.0, depending on diverse factors like the body part, age, genetics, ethnicity, and environment conditions.

So, are products formulated at pH 5.5 perfect for skin? The short answer: not really! First, parameters like texture and other ingredients indicate a cleanser's quality, much better than pH alone. Second, though the skin pH rises slightly immediately after cleaning even with plain water, it reverts to its mild acidic pH in an hour. Healthy skin quickly rebalances the 'acid mantle' – a protective layer over the skin – and is unaffected in the long term by the cleanser's pH. Skin modulates pH, making skin products function optimally. So, why market pH 5.5 products as "perfect"? Well, for certain skin types (e.g., oily skin) and certain skin conditions (like acne), an increase in pH can aggravate these skin situations. This might lead to an interpretation that a skin care product needs to be at a 5.5 pH for optimum cleansing.

Hence, skincare experts have expressed reservations about pH being the sole criterion of product safety and

'acid mantle' preservation when factors including plain water may contribute to the same. Thus, an ideal product is almost impossible to define. So, look well beyond pH alone.

Q.91)- "Let's start at the beginning." By this, the author means that:

1. we should look at the characteristics of a good soap
2. we should start discussing soap advertisements
3. we should start with the basic facts before going into the issue
4. we should first answer the question "Is there such a thing?"

Q.92)- "Is there really such a thing?" By "such a thing" the author is referring to:

1. close attention paid to advertisements
2. the perfect soap for all skin types
3. the perfect pH value for human skin
4. soap advertisements

Q.93)- According to the passage, the pH value of human skin is generally:

1. between 4 and 7
2. 5.5
3. between 7 and 14
4. between 0 and 7

Q.94)- Which of the following is NOT true according to the passage?

1. There is no perfect pH for the human skin.
2. The best way to judge the safety of a skin care product is by its pH.
3. Human skin adjusts the pH so that a cleansing agent functions optimally.
4. An increase in pH can aggravate certain skin conditions.

Q.95)- According to the passage, the 'acid mantle' refers to:

1. a layer over the skin that is balanced by healthy skin in terms of its pH
2. an acidic skin product with the right pH
3. a layer over the skin that keeps the skin pH at 5.5
4. an acidic cleansing agent with a pH of 5.5

Read the given passage and answer the questions that follow.

Anna Pávlovna's drawing room was gradually filling. The highest Petersburg society was assembled there: people differing widely in age and character but alike in the social circle to which they belonged. Prince Vasíli's daughter, the beautiful Héléne, wore a ball dress and her badge as maid of honor. The youthful little Princess Bolkónskaya, known as the most fascinating woman in Petersburg was also there. Vasíli's son,

Hippolyte, Mortemart and many others had also come.

To each new arrival Anna Pávlovna said, "You have not yet seen my aunt," or "You do not know my aunt?" and very gravely conducted him or her to a little old lady, wearing large bows of ribbon in her cap, who had come sailing in from another room as soon as the guests began to arrive; and slowly turning her eyes from the visitor to her aunt, Anna Pávlovna mentioned each one's name and then left them.

Each visitor performed the ceremony of greeting this old aunt whom not one of them knew, not one of them wanted to know, and not one of them cared about; Anna Pávlovna observed these greetings with mournful and solemn interest and silent approval. The aunt spoke to each of them in the same words, about their health and her own.

And each visitor, though politeness prevented his showing impatience, left the old woman with a sense of relief at having performed a vexatious duty and did not return to her the whole evening.

Q.96)- The guests seemed:

1. least interested in Anna's aunt
2. very delighted to meet Anna's aunt
3. interested in talking about their health
4. very glad to be introduced to Anna

Q.97)- When the guests arrived, Anna:

1. excitedly took them to meet the Prince
2. took each one to meet her aunt
3. took some of them to meet her aunt
4. met them unwillingly

Q.98)- "The guests left the old woman with a sense of relief at having performed a vexatious duty". The duty is described as vexatious because:

1. the guests were not happy when they finally left the aunt
2. it was a duty they found quite annoying
3. the guests were happy to have completed the assigned duty
4. it was quite pleasing to the guests

Q.99)- Match words from the passage with their meanings

Word	Meaning
1. solemn	a. captivating
2. fascinating	b. annoying
3. vexatious	c. grave

1. 1-c, 2-a, 3-b 2. 1-c, 2-b, 3-a 3. 1-a, 2-c, 3-b 4. 1-b, 2-c, 2-a

Q.100)- The guests in Anna's drawing room were:

1. all elderly men and women from high society
 2. only very good looking women
 3. only men and women belonging to high society
 4. from varied social backgrounds and age groups
-

