



GOVT. OF NCT OF DELHI
Delhi Subordinate Services Selection Board
FC-18, Institutional Area, Karkardooma, Delhi – 110092.
www.dsssb.delhigovt.nic.in

Participant ID	
Participant Name	
Test Center Name	Aadarsh Pariksha Kendra CENTER A - Gate No 1 - Noida Sector 64
Test Date	19/02/2026
Test Time	9:00 AM - 11:00 AM
Subject	Assistant Teacher Primary

Section : General Intelligence and Reasoning Ability

Q.1 संख्या 46812597 के प्रत्येक अंक को बाएं से दाएं आरोही क्रम में व्यवस्थित किया जाता है। इस प्रकार बनी संख्या में बाएं से तीसरे तथा दाएं से चौथे अंक का योग कितना होगा?

- Ans
- 1. 13
 - 2. 10
 - 3. 12
 - 4. 11

Question ID : 4410091656328
Option 1 ID : 4410096540270
Option 2 ID : 4410096540267
Option 3 ID : 4410096540269
Option 4 ID : 4410096540268

Adda247

Adda247

Test Prime

ALL EXAMS, ONE SUBSCRIPTION



1,00,000+
Mock Tests



**Personalised
Report Card**



**Unlimited
Re-Attempt**



600+
Exam Covered



25,000+ Previous
Year Papers



500%
Refund



ATTEMPT FREE MOCK NOW

Q.2 नीचे संख्याओं के दो समुच्चय दिए गए हैं। प्रत्येक संख्याओं के समुच्चय में, पहली संख्या पर एक निश्चित गणितीय संक्रिया करने पर दूसरी संख्या प्राप्त होती है। इसी प्रकार, दूसरी संख्या पर एक निश्चित गणितीय संक्रिया करने पर तीसरी संख्या प्राप्त होती है, इसी प्रकार आगे भी संख्याएँ प्राप्त होती हैं। दिए गए विकल्पों में से कौन-सा विकल्प, दिए गए समुच्चयों में प्रयुक्त समान संक्रिया-समुच्चय का अनुसरण करता है?

(नोट - दो/तीन अंकीय संख्या को संक्रियाओं के लिए उनके घटक अंकों में नहीं तोड़ा जा सकता है। उदाहरण के लिए, यदि 37 के बाद 10 आता है, तो यह संक्रिया $3+7$ नहीं हो सकती है क्योंकि दो अंकों की संख्या को अलग-अलग अंकों में नहीं तोड़ा जा सकता है।)

21 - 29 - 232 - 225

18 - 26 - 208 - 201

- Ans
- 1. 46 - 53 - 371 - 364
 - 2. 17 - 25 - 250 - 244
 - 3. 39 - 47 - 376 - 369
 - 4. 26 - 35 - 280 - 274

Question ID : 441009528748

Option 1 ID : 4410092070398

Option 2 ID : 4410092070399

Option 3 ID : 4410092070396

Option 4 ID : 4410092070397

Q.3 दी गई शृंखला में '?' के स्थान पर क्या आएगा?

4 ? 32 95 284 851

- Ans
- 1. 19
 - 2. 24
 - 3. 8
 - 4. 11

Question ID : 4410091528146

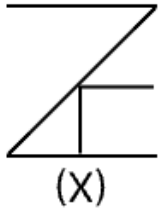
Option 1 ID : 4410096035779

Option 2 ID : 4410096035780

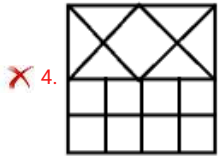
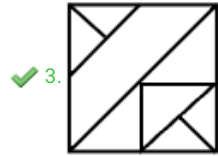
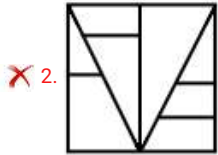
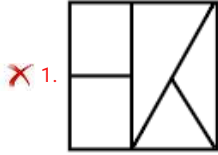
Option 3 ID : 4410096035777

Option 4 ID : 4410096035778

Q.4 उस विकल्प आकृति का चयन करें, जिसमें दी गई आकृति (X) उसके भाग के रूप में अंतर्निहित है। (घूर्णन की अनुमति नहीं है)

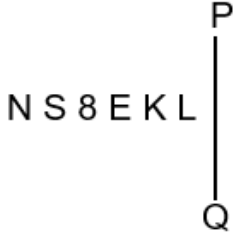


Ans



Question ID : 4410091377927
 Option 1 ID : 4410095519097
 Option 2 ID : 4410095519099
 Option 3 ID : 4410095519098
 Option 4 ID : 4410095519100

Q.5 जब दर्पण को नीचे दर्शाए अनुसार, PQ पर रखा जाता है, तो दिए गए संयोजन के सही दर्पण प्रतिबिंब का चयन कीजिए।



- Ans
- 1. N 2 8 E K L
 - 2. J K E 8 2 N
 - 3. L K E 8 S N
 - 4. N E 8 K L

Question ID : 44100971756
 Option 1 ID : 441009285406
 Option 2 ID : 441009285407
 Option 3 ID : 441009285405
 Option 4 ID : 441009285408

Q.6 निम्नलिखित अक्षर श्रृंखला का संदर्भ लें और प्रश्न का उत्तर दें। (गिनती केवल बाएँ से दाएँ की जानी है)
 (बाएँ) F W N V N F A S A C P A H H W X J J Z (दाएँ)
 ऐसे कितने स्वर हैं जिनमें से प्रत्येक के ठीक पहले एक व्यंजन है और ठीक बाद भी एक व्यंजन है?

- Ans
- 1. 2
 - 2. 1
 - 3. 3
 - 4. 4

Question ID : 441009779770
 Option 1 ID : 4410093073084
 Option 2 ID : 4410093073083
 Option 3 ID : 4410093073085
 Option 4 ID : 4410093073086

Q.7 Awaiting शब्द में प्रत्येक स्वर को अंग्रेजी वर्णमाला क्रम में उसके तुरंत बाद आने वाले अक्षर से बदल दिया जाता है और प्रत्येक व्यंजन को अंग्रेजी वर्णमाला क्रम में उसके तुरंत पहले आने वाले अक्षर से बदल दिया जाता है। इस प्रकार बने अक्षरों के नए समूह में कितने अक्षर ठीक दो बार दिखाई देंगे?

- Ans
- 1. दो
 - 2. चार
 - 3. एक
 - 4. तीन

Question ID : 441009216477
 Option 1 ID : 441009849948
 Option 2 ID : 441009849950
 Option 3 ID : 441009849947
 Option 4 ID : 441009849949

Q.8 किसी निश्चित कूट भाषा में, 'HARM' को '4871' और 'RAMP' को '8137' के रूप में कूटबद्ध किया जाता है। दी गई कूट भाषा में 'P' का कूट क्या होगा?

- Ans 1. 3
 2. 1
 3. 4
 4. 8

Question ID : 4410091518942
 Option 1 ID : 4410095999022
 Option 2 ID : 4410095999024
 Option 3 ID : 4410095999023
 Option 4 ID : 4410095999025

Q.9 अंग्रेजी वर्णमाला क्रम के आधार पर, निम्नलिखित चार में से तीन किसी निश्चित तरीके से एक समान हैं और इस प्रकार एक ग्रुप बनाते हैं। कौन-सा उस ग्रुप से संबंधित नहीं है?
 (नोट: असंगत अक्षर-समूह, अक्षर समूह में व्यंजनों/स्वरों की संख्या या उनकी स्थिति पर आधारित नहीं है)

- Ans 1. TVY
 2. EGJ
 3. LNQ
 4. QST

Question ID : 441009785450
 Option 1 ID : 4410093095803
 Option 2 ID : 4410093095805
 Option 3 ID : 4410093095804
 Option 4 ID : 4410093095806

Q.10 यह प्रश्न नीचे दी गई तीन अंकों वाली पाँच संख्याओं पर आधारित है।
 (बाएँ) 287 846 241 726 468 (दाएँ)
 (उदाहरण: 697 - पहला अंक = 6, दूसरा अंक = 9 और तीसरा अंक = 7)
 (नोट: सभी संक्रियाएँ बाएँ से दाएँ की जानी हैं।)

यदि दूसरी सबसे बड़ी संख्या के दूसरे अंक को तीसरी सबसे छोटी संख्या के दूसरे अंक से गुणा किया जाए तो परिणाम कितना प्राप्त होगा?

- Ans 1. 22
 2. 12
 3. 10
 4. 21

Question ID : 441009794347
 Option 1 ID : 4410093131390
 Option 2 ID : 4410093131388
 Option 3 ID : 4410093131387
 Option 4 ID : 4410093131389

Q.11 अंग्रेजी वर्णमाला के क्रम के आधार पर, निम्नलिखित चार अक्षर-समूह युग्मों में से तीन किसी निश्चित प्रकार से समान हैं और इस प्रकार वे एक गुप बनाते हैं। निम्नलिखित में से कौन-सा अक्षर-समूह युग्म, उस गुप से संबंधित नहीं है?
(नोट: असंगत अक्षर-समूह युग्म, व्यंजनों/स्वरों की संख्या या उनकी स्थिति पर आधारित नहीं है।)

- Ans 1. QJ - LP
 2. OH - IB
 3. RK - LE
 4. UN - OH

Question ID : 441009811353
 Option 1 ID : 4410093199538
 Option 2 ID : 4410093199537
 Option 3 ID : 4410093199536
 Option 4 ID : 4410093199535

Q.12 सात बक्से F, I, L, T, E, R और S एक के ऊपर एक रखे गए हैं, लेकिन जरूरी नहीं है कि इसी क्रम में रखे गए हों। केवल S को I के ऊपर रखा गया है। केवल F को I और E के बीच में रखा गया है। R और L के बीच में कितने बक्से रखे गए हैं?

- Ans 1. चार
 2. एक
 3. तीन
 4. दो

Question ID : 4410091518831
 Option 1 ID : 4410095998605
 Option 2 ID : 4410095998602
 Option 3 ID : 4410095998604
 Option 4 ID : 4410095998603

Q.13 यदि 'A' का अर्थ '+' है, 'B' का अर्थ 'x' है, 'C' का अर्थ '+' है और 'D' का अर्थ '-' है, तो निम्नलिखित समीकरण में प्रश्न-चिह्न '?' के स्थान पर क्या आएगा?
 $15 B 3 D 6 A 3 C 7 = ?$

- Ans 1. 55
 2. 60
 3. 45
 4. 50

Question ID : 4410091606210
 Option 1 ID : 4410096343866
 Option 2 ID : 4410096343867
 Option 3 ID : 4410096343864
 Option 4 ID : 4410096343865

Q.14 S, A का भाई है। A, Y का पिता है। B, W का पिता है। W, Y का पुत्र है। S का W से क्या संबंध है?

- Ans
- 1. माता का भाई
 - 2. माता के पिता के भाई
 - 3. माता के पिता के पिता
 - 4. माता के पिता

Question ID : 4410091614486
Option 1 ID : 4410096376764
Option 2 ID : 4410096376761
Option 3 ID : 4410096376762
Option 4 ID : 4410096376763

Q.15 सात व्यक्ति, R, O, A, M, I, N और G, एक पंक्ति में उत्तर की ओर अभिमुख होकर बैठे हैं। N के बाईं ओर केवल दो व्यक्ति बैठे हैं। N और A के बीच में केवल तीन व्यक्ति बैठे हैं। A और R के बीच केवल एक व्यक्ति बैठा है। O, I के ठीक बाईं ओर पड़ोस में बैठा है। G, A का निकटतम पड़ोसी नहीं है। M के दाईं ओर कितने व्यक्ति बैठे हैं?

- Ans
- 1. तीन
 - 2. दो
 - 3. एक
 - 4. चार

Question ID : 4410091518809
Option 1 ID : 4410095998520
Option 2 ID : 4410095998519
Option 3 ID : 4410095998518
Option 4 ID : 4410095998521

Q.16 उत्तर की ओर अभिमुख व्यक्तियों की एक पंक्ति में, पीयूष दाएँ छोर से 11वें स्थान पर है। कृष्णा दाएँ छोर से 20वें स्थान पर है। पीयूष और जैकी के ठीक बीच में कृष्णा है। यदि जैकी पंक्ति के बाएँ छोर से चौथे स्थान पर है, तो पंक्ति में कुल कितने व्यक्ति हैं?

- Ans
- 1. 31
 - 2. 32
 - 3. 30
 - 4. 33

Question ID : 4410091619667
Option 1 ID : 4410096397525
Option 2 ID : 4410096397526
Option 3 ID : 4410096397524
Option 4 ID : 4410096397527

Q.17 फैसल अपनी कक्षा में शीर्ष से 22वें और नीचे से 20वें स्थान पर है। उसकी कक्षा में कुल कितने विद्यार्थी हैं?

- Ans 1. 39
 2. 40
 3. 41
 4. 38

Question ID : 4410091518819
 Option 1 ID : 4410095998555
 Option 2 ID : 4410095998556
 Option 3 ID : 4410095998557
 Option 4 ID : 4410095998554

Q.18 निम्नलिखित अक्षर, प्रतीक श्रृंखला का संदर्भ लें और निम्न प्रश्न का उत्तर दें। गिनती केवल बाएं से दाएं की जानी है।

(बाएं) £ B % K H & @ & J © J € O X \$ N \$ J @ & P O (दाएं)

ऐसे कितने अक्षर हैं जिनमें से प्रत्येक के ठीक पहले एक अक्षर और ठीक बाद एक प्रतीक है?

- Ans 1. 2
 2. 3
 3. 1
 4. 4

Question ID : 441009795660
 Option 1 ID : 4410093136639
 Option 2 ID : 4410093136640
 Option 3 ID : 4410093136641
 Option 4 ID : 4410093136642

Q.19 अंग्रेजी वर्णमाला क्रम पर आधारित एक निश्चित तरीके से, HIKH का संबंध LMOL से है। इसी प्रकार, DEGD का संबंध HIKH से है। समान तर्क के आधार पर, ABDA का संबंध निम्नलिखित में से किससे है?

- Ans 1. EFHE
 2. EGGO
 3. EFGE
 4. EEGE

Question ID : 441009779057
 Option 1 ID : 4410093070231
 Option 2 ID : 4410093070232
 Option 3 ID : 4410093070234
 Option 4 ID : 4410093070233

Q.20 निम्नलिखित में से कौन-सा अक्षर-संख्या समूह दी गई श्रृंखला में प्रश्न चिह्न (?) को प्रतिस्थापित करके इसे तार्किक रूप से पूर्ण बना देगा?

GHJ51 , JKM67 , MNP83 , PQS99 , ?

- Ans
- 1. STU115
 - 2. SIV115
 - 3. STV115
 - 4. KTV115

Question ID : 4410091519086
Option 1 ID : 4410095999607
Option 2 ID : 4410095999608
Option 3 ID : 4410095999606
Option 4 ID : 4410095999609

Section : General Awareness

Q.1 DRDO और भारतीय नौसेना द्वारा 27 फरवरी, 2025 को चांदीपुर से परीक्षण की गई मिसाइल _____ थी?

- Ans
- 1. अग्नि-पी (Agni-P)
 - 2. NASM-SR नौसैनिक जहाज-रोधी मिसाइल (NASM-SR naval anti-ship missile)
 - 3. ब्रह्मोस द्वितीय (BrahMos II)
 - 4. प्रलय सामरिक मिसाइल (Pralay tactical missile)

Question ID : 441009225146
Option 1 ID : 441009881700
Option 2 ID : 441009881699
Option 3 ID : 441009881697
Option 4 ID : 441009881698

Q.2 निम्नलिखित में से कौन-सा, अटल कायाकल्प और शहरी परिवर्तन मिशन (AMRUT) के तहत शहरी विकास का प्रमुख क्षेत्र नहीं है?

- Ans
- 1. हरित क्षेत्र और पार्क (Green spaces and parks)
 - 2. ट्रांसशिपमेंट केंद्रों (transshipment hubs) को बढ़ावा
 - 3. सीवरज और सेप्टेज प्रबंधन (Sewerage and septage management)
 - 4. गैर-मोटर चालित शहरी परिवहन (Non-Motorised Urban Transport)

Question ID : 4410091457543
Option 1 ID : 4410095758480
Option 2 ID : 4410095758482
Option 3 ID : 4410095758481
Option 4 ID : 4410095758483

Q.3 निम्नलिखित में से कौन-सा, ISRO के EOS-05 मिशन का सबसे अच्छा वर्णन करता है?

- Ans
- 1. अंतरिक्ष में डॉकिंग प्रयोगों के लिए डिज़ाइन किया गया एक उपग्रह।
 - 2. मंगल ग्रह को लक्षित करने वाला एक गहन अंतरिक्ष अन्वेषण मिशन।
 - 3. पर्यावरण निगरानी के लिए एक पृथ्वी अवलोकन उपग्रह।
 - 4. वैश्विक संपर्क के लिए एक संचार उपग्रह।

Question ID : 441009312306
Option 1 ID : 4410091215705
Option 2 ID : 4410091215704
Option 3 ID : 4410091215703
Option 4 ID : 4410091215702

Q.4 विशाल भारतीय मैदान का निर्माण मुख्य रूप से किस भूवैज्ञानिक प्रक्रिया द्वारा हुआ था?

- Ans
- 1. विवर्तनिक उत्थान
 - 2. अवसादन निक्षेपण
 - 3. हिमनदीय अपरदन
 - 4. ज्वालामुखी उद्गार

Question ID : 441009321799
Option 1 ID : 4410091253396
Option 2 ID : 4410091253397
Option 3 ID : 4410091253398
Option 4 ID : 4410091253395

Q.5 भारतीय संविधान का अनुच्छेद 359A निम्नलिखित में से किस राज्य से संबंधित है?

- Ans
- 1. पंजाब
 - 2. असम
 - 3. मेघालय
 - 4. जम्मू और कश्मीर

Question ID : 441009327805
Option 1 ID : 4410091277680
Option 2 ID : 4410091277678
Option 3 ID : 4410091277679
Option 4 ID : 4410091277681

Q.6 जम्मू और कश्मीर में 'दुम्हाल (Dumhal)' नृत्य किस जनजाति द्वारा किया जाता है?

- Ans
- 1. गुर्जर
 - 2. भील
 - 3. बकरवाल
 - 4. वट्टल

Question ID : 441009275771
Option 1 ID : 4410091071257
Option 2 ID : 4410091071255
Option 3 ID : 4410091071256
Option 4 ID : 4410091071258

Q.7 उन्नत अर्थव्यवस्थाओं में तृतीयक क्षेत्र का प्रमुख लक्षण निम्नलिखित में से कौन-सा है?

- Ans 1. अत्यधिक विशिष्ट और ज्ञान-आधारित सेवाओं की संवृद्धि
 2. निम्न कौशल श्रम का प्रभुत्व
 3. निर्यात के लिए विनिर्मित वस्तुओं का अतिउत्पादन
 4. बड़े पैमाने पर प्राथमिक उद्योगों पर निर्भरता

Question ID : 441009209755
 Option 1 ID : 441009824268
 Option 2 ID : 441009824267
 Option 3 ID : 441009824269
 Option 4 ID : 441009824266

Q.8 लिटमस के उत्पादन के लिए किस प्राकृतिक पदार्थ का उपयोग किया जाता है?

- Ans 1. कवक
 2. लाइकेन
 3. जीवाणु
 4. शैवाल

Question ID : 441009513039
 Option 1 ID : 4410092007152
 Option 2 ID : 4410092007153
 Option 3 ID : 4410092007155
 Option 4 ID : 4410092007154

Q.9 निम्नलिखित में से किसने उदारवादियों के अधीन विभाजन विरोधी आंदोलन का नेतृत्व किया?

- Ans 1. भगत सिंह
 2. सुरेंद्रनाथ बनर्जी
 3. जवाहरलाल नेहरू
 4. महात्मा गांधी

Question ID : 441009328857
 Option 1 ID : 4410091281840
 Option 2 ID : 4410091281839
 Option 3 ID : 4410091281841
 Option 4 ID : 4410091281838

Q.10 1885 में जब भारतीय राष्ट्रीय कांग्रेस की स्थापना हुई, तब इसका प्रारंभिक उद्देश्य क्या था?

- Ans 1. पूर्ण स्वतंत्रता
 2. धार्मिक एकता
 3. सशस्त्र विद्रोह
 4. सीमित सुधार

Question ID : 441009876101
 Option 1 ID : 4410093458019
 Option 2 ID : 4410093458021
 Option 3 ID : 4410093458022
 Option 4 ID : 4410093458020

Q.11 किसी राज्य के राज्यपाल की नियुक्ति _____ अपने हस्ताक्षर और मुद्रा सहित पत्र द्वारा करता है।

- Ans
- 1. भारत का राष्ट्रपति
 - 2. भारत का मुख्य न्यायाधीश
 - 3. भारत का प्रधानमंत्री
 - 4. संबंधित राज्य का मुख्यमंत्री

Question ID : 441009672144
Option 1 ID : 4410092642671
Option 2 ID : 4410092642673
Option 3 ID : 4410092642670
Option 4 ID : 4410092642672

Q.12 1991 के व्यापार और निवेश नीति सुधारों का अपेक्षित परिणाम क्या था?

- Ans
- 1. विदेशी निवेश में कमी
 - 2. व्यापार बाधाओं में वृद्धि
 - 3. आधुनिक प्रौद्योगिकियों को अपनाने में वृद्धि
 - 4. स्थानीय उद्योगों की दक्षता में कमी

Question ID : 441009226689
Option 1 ID : 441009887593
Option 2 ID : 441009887594
Option 3 ID : 441009887592
Option 4 ID : 441009887591

Q.13 ईरान के शासक, नादिर शाह ने कब दिल्ली शहर को लूटा और अत्यधिक मात्रा में धन-संपत्ति अपने साथ ले गया?

- Ans
- 1. 1839 AD
 - 2. 1639 AD
 - 3. 1739 AD
 - 4. 1539 AD

Question ID : 441009102990
Option 1 ID : 441009410011
Option 2 ID : 441009410009
Option 3 ID : 441009410010
Option 4 ID : 441009410008

Q.14 प्रोटीन अनुक्रम में अंतिम अमीनो अम्ल को _____ कहा जाता है।

- Ans
- 1. ओमेगा ग्रुप (Omega group)
 - 2. N-टर्मिनल (N-terminal)
 - 3. बीटा-एंड (Beta-end)
 - 4. C-टर्मिनल (C-terminal)

Question ID : 441009512778
Option 1 ID : 4410092006243
Option 2 ID : 4410092006241
Option 3 ID : 4410092006240
Option 4 ID : 4410092006242

Q.15 निम्नलिखित में से कौन-सा, संसदीय सर्वोच्चता स्थापित करने के प्रयासों के संदर्भ में केशवानंद भारती निर्णय के दीर्घकालिक संवैधानिक परिणाम को सटीक रूप से निरूपित करता है?

- Ans
- 1. 1980 के बाद संवैधानिक समीक्षा ने मौलिक अधिकारों में संशोधन पर सभी प्रतिबंधों को सफलतापूर्वक हटा दिया।
 - 2. 42वें संशोधन ने मूल संरचना सिद्धांत को निरस्त कर दिया, जिससे संसद सभी संवैधानिक मामलों में संप्रभु बन गई।
 - 3. मिनर्वा मिल्स फैसले ने केशवानंद फैसले को पलट दिया और प्रस्तावना को गैर-न्यायसंगत घोषित कर दिया।
 - 4. 42वें संशोधन के बावजूद, मिनर्वा मिल्स में सर्वोच्च न्यायालय ने संवैधानिक संशोधनों को सीमित करते हुए बुनियादी संरचना सिद्धांत की पुष्टि की।

Question ID : 441009671841
Option 1 ID : 4410092641461
Option 2 ID : 4410092641458
Option 3 ID : 4410092641459
Option 4 ID : 4410092641460

Q.16 अप्रैल 2025 में, क्लॉस श्वाब (Klaus Schwab) ने जिनेवा स्थित संस्था में कितने वर्षों की सेवा के बाद विश्व आर्थिक मंच (World Economic Forum) के अध्यक्ष पद से इस्तीफा दे दिया?

- Ans
- 1. 43
 - 2. 55
 - 3. 59
 - 4. 36

Question ID : 441009321062
Option 1 ID : 4410091250514
Option 2 ID : 4410091250515
Option 3 ID : 4410091250516
Option 4 ID : 4410091250513

Q.17 शाहजहाँ द्वारा अपनी पत्नी मुमताज महल की स्मृति में बनवाया गया कौन-सा स्मारक, UNESCO वर्ल्ड हेरिटेज साइट है?

- Ans
- 1. ताज महल
 - 2. लाल किला
 - 3. कुतुब मीनार
 - 4. हुमायूँ का मकबरा

Question ID : 441009749042
Option 1 ID : 4410092949990
Option 2 ID : 4410092949989
Option 3 ID : 4410092949988
Option 4 ID : 4410092949991

Q.18 BPO का पूर्ण रूप क्या है?

- Ans 1. Business Process Outsourcing (बिजनेस प्रोसेस आउटसोर्सिंग)
 2. Basic Product Outsourcing (बेसिक प्रोडक्ट आउटसोर्सिंग)
 3. Business Private Operations (बिजनेस प्राइवेट ऑपरेशन्स)
 4. Banking Process Order (बैंकिंग प्रोसेस ऑर्डर)

Question ID : 441009226635
Option 1 ID : 441009887379
Option 2 ID : 441009887380
Option 3 ID : 441009887377
Option 4 ID : 441009887378

Q.19 2025 में COP30 जलवायु शिखर सम्मेलन की मेजबानी किस देश ने की थी?

- Ans 1. जर्मनी
 2. भारत
 3. ब्राज़ील
 4. कनाडा

Question ID : 4410091556431
Option 1 ID : 4410096148295
Option 2 ID : 4410096148294
Option 3 ID : 4410096148297
Option 4 ID : 4410096148296

Q.20 कैंसर का विश्लेषण करने के लिए भारतीय शोधकर्ताओं द्वारा नवंबर 2025 में कौन-सा AI टूल लॉन्च किया गया था?

- Ans 1. बायोस्केन (BioScan)
 2. मेडएआई (MedAI)
 3. ऑन्कोमार्क (OncoMark)
 4. जीनट्रैक (GeneTrack)

Question ID : 4410091563041
Option 1 ID : 4410096173727
Option 2 ID : 4410096173730
Option 3 ID : 4410096173728
Option 4 ID : 4410096173729

Section : Arithmetical and Numerical Ability

Q.1 A और B एक काम को क्रमशः 12 दिन और 28 दिन में पूरा कर सकते हैं। दोनों 3 दिन काम करते हैं और फिर A चला जाता है। शेष काम को पूरा करने में B को कितने दिन लगेंगे?

- Ans
- 1. 19
 - 2. 17
 - 3. 18
 - 4. 20

Question ID : 441009897353
Option 1 ID : 4410093543483
Option 2 ID : 4410093543484
Option 3 ID : 4410093543482
Option 4 ID : 4410093543485

Q.2 एक बल्लेबाज द्वारा 21 मैचों में बनाए गए रनों का औसत 40 रन है। अगले 15 मैचों में, बल्लेबाज ने औसतन 13 रन बनाए। सभी 36 मैचों में उसका औसत (रन में, दशमलव के दो स्थानों तक पूर्णांकित) ज्ञात कीजिए।

- Ans
- 1. 27.75
 - 2. 28.75
 - 3. 30.75
 - 4. 29.75

Question ID : 441009894836
Option 1 ID : 4410093533415
Option 2 ID : 4410093533414
Option 3 ID : 4410093533417
Option 4 ID : 4410093533416

Q.3 अजय को 130 km धारा की विपरीत दिशा में और 260 km धारा की दिशा में नाव चलाने में 46 घंटे लगते हैं। इसके अतिरिक्त, उसे 90 km धारा की विपरीत दिशा में और 208 km धारा की दिशा में तैरने में 34 घंटे लगते हैं। स्थिर जल में अजय की चाल ज्ञात कीजिए।

- Ans
- 1. 10 km/hr
 - 2. 12 km/hr
 - 3. 7 km/hr
 - 4. 9 km/hr

Question ID : 44100952227
Option 1 ID : 441009208029
Option 2 ID : 441009208030
Option 3 ID : 441009208027
Option 4 ID : 441009208028

Q.4 एक धात्विक गोले का व्यास 6 cm है। इसे पिघलाकर 0.2 cm अनुप्रस्थ-काट व्यास वाले एक तार के रूप में खींचा जाता है। तार की लंबाई (मीटर में) ज्ञात कीजिए।

- Ans 1. 360
 2. 36
 3. 3.6
 4. 0.36

Question ID : 441009621026
 Option 1 ID : 4410092438239
 Option 2 ID : 4410092438238
 Option 3 ID : 4410092438237
 Option 4 ID : 4410092438236

Q.5 $(5 + 2\sqrt{6}) + \frac{1}{(5 - 2\sqrt{6})} - (10 + 4\sqrt{6})$ का मान ज्ञात कीजिए।

- Ans 1. 4
 2. 1
 3. 2
 4. 0

Question ID : 4410098259
 Option 1 ID : 44100932743
 Option 2 ID : 44100932741
 Option 3 ID : 44100932742
 Option 4 ID : 44100932740

Q.6 संख्या 24, 32 और 42 का चतुर्थानुपाती ज्ञात कीजिए।

- Ans 1. 63
 2. 42
 3. 28
 4. 56

Question ID : 4410096013
 Option 1 ID : 44100923832
 Option 2 ID : 44100923830
 Option 3 ID : 44100923829
 Option 4 ID : 44100923831

Q.7 एक दुकानदार ₹4,000 अंकित मूल्य वाली वस्तु पर 15% और 20% की दो क्रमिक छूट प्रदान करता है। वस्तु का अंतिम विक्रय मूल्य ज्ञात कीजिए।

- Ans
- 1. ₹3,200
 - 2. ₹2,600
 - 3. ₹2,720
 - 4. ₹2,880

Question ID : 4410091546480
Option 1 ID : 4410096108806
Option 2 ID : 4410096108803
Option 3 ID : 4410096108804
Option 4 ID : 4410096108805

Q.8 पहले वर्ष में किसी गांव की जनसंख्या में 8% की वृद्धि हुई और दूसरे वर्ष में उसमें 8% की कमी आई। दूसरे वर्ष के अंत में उसकी जनसंख्या 34776 थी। पहले वर्ष के प्रारंभ में जनसंख्या कितनी थी?

- Ans
- 1. 35000
 - 2. 34200
 - 3. 34000
 - 4. 34900

Question ID : 4410098336
Option 1 ID : 44100933055
Option 2 ID : 44100933053
Option 3 ID : 44100933052
Option 4 ID : 44100933054

Q.9 नीचे दी गई तालिका में पांच शोरूम P, Q, R, S और T द्वारा वर्ष 2019 से 2023 के दौरान बेची गई साइकिलों की संख्या दर्शाई गई है। तालिका का अध्ययन कीजिए और नीचे दिए गए प्रश्न का उत्तर दीजिए।

वर्ष/शोरूम	P	Q	R	S
2019	360	380	340	280
2020	320	350	380	350
2021	410	400	480	400
2022	480	470	420	430
2023	520	410	500	470

वर्ष 2020 से 2023 के दौरान शोरूम Q द्वारा बेची गई साइकिलों की संख्या ज्ञात कीजिए।

- Ans
- 1. 1720
 - 2. 1580
 - 3. 1630
 - 4. 1370

Question ID : 4410095689
Option 1 ID : 44100922537
Option 2 ID : 44100922535
Option 3 ID : 44100922536
Option 4 ID : 44100922534

Q.10 एक दुकानदार एक किताब 7% की हानि पर बेचता है। यदि विक्रय मूल्य में ₹120 की वृद्धि कर दी जाती, तो उसे 18% का लाभ प्राप्त होता। किताब का क्रय मूल्य (₹ में) ज्ञात कीजिए।

- Ans
- 1. 475
 - 2. 485
 - 3. 490
 - 4. 480

Question ID : 441009895076

Option 1 ID : 4410093534375

Option 2 ID : 4410093534376

Option 3 ID : 4410093534377

Option 4 ID : 4410093534374

Q.11 तीन प्रकार के पेय पदार्थ हैं जिनमें जूस और पानी का अनुपात क्रमशः 2 : 3, 3 : 7 और 4 : 5 है। पात्र M पहले प्रकार के पेय पदार्थ से पूरी तरह भरा है, पात्र N दूसरे प्रकार के पेय पदार्थ से पूरी तरह भरा है और पात्र O तीसरे प्रकार के पेय पदार्थ से पूरी तरह भरा है। यदि इन पात्रों की धारिता का अनुपात 6 : 5 : 4 है, तो बताएं कि किस पात्र में जूस की मात्रा सबसे कम है?

- Ans
- 1. M
 - 2. N
 - 3. सभी पात्रों में समान मात्रा में जूस है।
 - 4. O

Question ID : 44100952072

Option 1 ID : 441009207412

Option 2 ID : 441009207413

Option 3 ID : 441009207415

Option 4 ID : 441009207414

Q.12 तीन घन जिनकी भुजाओं का अनुपात 2 : 3 : 4 है, इन घनों को पिघलाकर एक बेलन बनाया जाता है जिसकी त्रिज्या 6 cm और ऊंचाई 7 cm है। घनों की भुजाओं का माप ज्ञात कीजिए।
(दिया गया है: $\pi = \frac{22}{7}$)

- Ans
- 1. 2 cm, 3 cm और 4 cm
 - 2. 6 cm, 9 cm और 12 cm
 - 3. 4 cm, 6 cm और 8 cm
 - 4. 8 cm, 12 cm और 16 cm

Question ID : 44100952340

Option 1 ID : 441009208476

Option 2 ID : 441009208477

Option 3 ID : 441009208475

Option 4 ID : 441009208478

Q.13 एक दुकानदार एक कुर्सी ₹2,400 में खरीदता है और उसके परिवहन पर ₹100 खर्च करता। इसके बाद वह उसे ₹3,000 में बेच देता है। उसका लाभ प्रतिशत क्या है?

- Ans 1. 20%
 2. 25%
 3. 18%
 4. 15%

Question ID : 4410091639868
 Option 1 ID : 4410096476687
 Option 2 ID : 4410096476688
 Option 3 ID : 4410096476689
 Option 4 ID : 4410096476686

Q.14 200 m और 400 m लंबी दो रेलगाड़ी 150 m की दूरी पर हैं। वे समानांतर पटरियों पर एक-दूसरे की ओर 130 km/hr और 140 km/hr की चाल से चलना शुरू करती हैं। रेलगाड़ी एक-दूसरे को कितने समय (सेकंड में) में पार करेंगी?

- Ans 1. 15
 2. 10
 3. 5
 4. 20

Question ID : 44100920186
 Option 1 ID : 44100980475
 Option 2 ID : 44100980474
 Option 3 ID : 44100980473
 Option 4 ID : 44100980476

Q.15 एक पंसारी को किस अनुपात (सस्ती का महंगी से) में दो किस्मों की दालों, जिनकी कीमत क्रमशः ₹18 और ₹22 प्रति kg है, को मिलाना चाहिए, ताकि मिश्रण का मूल्य ₹19.50 प्रति kg प्राप्त हो?

- Ans 1. 2 : 5
 2. 5 : 3
 3. 3 : 7
 4. 4 : 3

Question ID : 441009287268
 Option 1 ID : 4410091120033
 Option 2 ID : 4410091120031
 Option 3 ID : 4410091120034
 Option 4 ID : 4410091120032

Q.16 निम्नलिखित में से कौन-सा विकल्प, $281 \times 926 \times 2007$ को पूरी तरह से विभाजित करता है?

- Ans
- 1.7
 - 2.5
 - 3.9
 - 4.11

Question ID : 44100951528
Option 1 ID : 441009205261
Option 2 ID : 441009205260
Option 3 ID : 441009205262
Option 4 ID : 441009205263

Q.17 5 श्रमिकों का एक समूह किसी कार्य को 12 दिन में पूरा कर सकता है। 4 दिन बाद, 2 और श्रमिक समूह में शामिल हो जाते हैं। शेष कार्य को पूरा करने में कितने दिन और लगेंगे?

- Ans
- 1. $5\frac{5}{7}$
 - 2. $5\frac{5}{9}$
 - 3. $5\frac{3}{5}$
 - 4. $7\frac{2}{3}$

Question ID : 44100952118
Option 1 ID : 441009207592
Option 2 ID : 441009207591
Option 3 ID : 441009207593
Option 4 ID : 441009207594

Q.18 धातु की एक छड़ को चार बराबर भागों में विभाजित किया जाता है। इन भागों को 5 m लंबाई के भुजा वाले किसी घनाकार कमरे के चारों विकर्णों के अनुदिश रखा जाता है। धातु की छड़ की कुल लंबाई (m में) कितनी है? ($\sqrt{3} = 1.7$)

- Ans
- 1.38
 - 2.36
 - 3.34
 - 4.32

Question ID : 44100918106
Option 1 ID : 44100972250
Option 2 ID : 44100972249
Option 3 ID : 44100972247
Option 4 ID : 44100972248

Q.19 एक शहर की जनसंख्या प्रतिवर्ष 5% बढ़ती है। शहर की वर्तमान जनसंख्या 1,86,102 है। दो वर्ष पहले इस शहर की जनसंख्या _____ थी।

- Ans
- 1. 1,86,800
 - 2. 1,68,800
 - 3. 84,400
 - 4. 1,88,600

Question ID : 441009183353
Option 1 ID : 441009724819
Option 2 ID : 441009724818
Option 3 ID : 441009724820
Option 4 ID : 441009724821

Q.20 किस राशि (₹ में) पर 2 वर्षों में 16% वार्षिक ब्याज दर से साधारण ब्याज के रूप में ₹1560 प्राप्त होगा?

- Ans
- 1. 2437.5
 - 2. 4875
 - 3. 9750
 - 4. 499.2

Question ID : 441009852641
Option 1 ID : 4410093363537
Option 2 ID : 4410093363536
Option 3 ID : 4410093363538
Option 4 ID : 4410093363539

Section : English Language and Comprehension

Q.1 Select the most appropriate article to fill in the blank. If no article is needed, select 'No article required'.

She read about _____ theory of relativity in the physics textbook.

- Ans
- 1. an
 - 2. No article required
 - 3. the
 - 4. a

Question ID : 4410091087917
Option 1 ID : 4410094289200
Option 2 ID : 4410094289202
Option 3 ID : 4410094289201
Option 4 ID : 4410094289199

Q.2 Select the option that is the most appropriate antonym of the underlined word in the given sentence.

He was criticised for his insolent behaviour.

- Ans
- 1. warranted
 - 2. aggressive
 - 3. courteous
 - 4. unethical

Question ID : 4410091639651
Option 1 ID : 4410096476020
Option 2 ID : 4410096476021
Option 3 ID : 4410096476019
Option 4 ID : 4410096476018

Q.3 Complete the sentence with the appropriate word.

The students _____ their notebooks during the lecture.

- Ans
- 1. narrated
 - 2. published
 - 3. opened
 - 4. discarded

Question ID : 4410091553015
Option 1 ID : 4410096134378
Option 2 ID : 4410096134379
Option 3 ID : 4410096134376
Option 4 ID : 4410096134377

Q.4 A sentence has been given with highlighted text. You are required to replace it with the correct idiom from the options.

By rebuking the protestors, you will only aggravate the situation and perhaps cause more problems.

- Ans
- 1. break loose
 - 2. add fuel to the fire
 - 3. break the ice
 - 4. kick up a row

Question ID : 441009171280
Option 1 ID : 441009678009
Option 2 ID : 441009678011
Option 3 ID : 441009678010
Option 4 ID : 441009678012

Q.5 Complete the sentence with the appropriate word.
The team worked _____ to finish the project before the deadline.

- Ans
- 1. tirelessly
 - 2. randomly
 - 3. rarely
 - 4. reluctantly

Question ID : 4410091553002
Option 1 ID : 4410096134324
Option 2 ID : 4410096134327
Option 3 ID : 4410096134326
Option 4 ID : 4410096134325

Q.6 Parts of the given sentence have been underlined. One of them contains a spelling error. The underlined parts are given as options with some changes. Select the option that correctly rectifies the error.

If someone priorritizes something over others, he treats it as more important than other things.

- Ans
- 1. Somaone
 - 2. lmmportant
 - 3. Thinnings
 - 4. Prioritizes

Question ID : 4410091385304
Option 1 ID : 4410095471956
Option 2 ID : 4410095471958
Option 3 ID : 4410095471959
Option 4 ID : 4410095471957

Q.7 Substitute with one word
The term that refers to the systematic study of religion and religious beliefs.

- Ans
- 1. Theology
 - 2. Anthropology
 - 3. Sociology
 - 4. Mythology

Question ID : 4410091526261
Option 1 ID : 4410096028163
Option 2 ID : 4410096028162
Option 3 ID : 4410096028164
Option 4 ID : 4410096028165

Q.8 Choose the option that shows the same kind of relationship/connection as the given sentence.

The thief broke the lock to enter the house.

- Ans
- 1. The gardener watered the plants in the morning.
 - 2. The spy hacked the system to steal data.
 - 3. The author revised the manuscript again.
 - 4. The player trained hard for the match.

Question ID : 4410091526308
Option 1 ID : 4410096028351
Option 2 ID : 4410096028353
Option 3 ID : 4410096028352
Option 4 ID : 4410096028350

Q.9 In the given question, a statement divided into different segments is given. The first segment is fixed. Rearrange the other segments to form a coherent statement.

1)The innovative scientist conducted a series of experiments
A) that could change the future of medicine
B) with meticulous attention to detail
C) in her state-of-the-art laboratory
D) leading to ground breaking discoveries

- Ans
- 1. 1-C-A-D-B
 - 2. 1-D-B-A-C
 - 3. 1-B-A-C-D
 - 4. 1-C-B-D-A

Question ID : 4410091524487
Option 1 ID : 4410096021187
Option 2 ID : 4410096021185
Option 3 ID : 4410096021184
Option 4 ID : 4410096021186

Q.10 Parts of a sentence are given below in jumbled order. The first part of the sentence is fixed, followed by P, Q, R, S, and T. Arrange the jumbled parts in the correct order to form a meaningful sentence.

The cleanliness drive in India
P: for spreading awareness
Q: under the Swachh Bharat Abhiyan
R: has become a nationwide movement
S: among school and college students
T: led by enthusiastic volunteers

- Ans
- 1. T R P S Q
 - 2. S Q T P R
 - 3. Q R T P S
 - 4. P S Q T R

Question ID : 4410091096080
Option 1 ID : 4410094321702
Option 2 ID : 4410094321704
Option 3 ID : 4410094321701
Option 4 ID : 4410094321703

Q.11 Select the most appropriate option to fill in the blank.

The novel offers a _____ portrayal of rural life, neither idealising nor condemning it.

- Ans
- 1. balanced
 - 2. sentimental
 - 3. superficial
 - 4. distorted

Question ID : 4410091481676
Option 1 ID : 4410095853767
Option 2 ID : 4410095853769
Option 3 ID : 4410095853766
Option 4 ID : 4410095853768

Q.12 Choose the option that can replace the highlighted text with the correct proverb.

After losing the match, the team realized that there was no point worrying about what had already happened hence they started to focus on preparing for the next game.

- Ans
- 1. It's no use crying over spilt milk
 - 2. A stitch in time saves nine
 - 3. Empty vessels make
 - 4. Actions speak louder than words

Question ID : 4410091527687
Option 1 ID : 4410096033960
Option 2 ID : 4410096033959
Option 3 ID : 4410096033961
Option 4 ID : 4410096033962

Q.13 Select the misspelt word.

- Ans
- 1. Cowardice
 - 2. Deterreed
 - 3. Casualty
 - 4. Binocular

Question ID : 4410091265528
Option 1 ID : 4410094995017
Option 2 ID : 4410094995016
Option 3 ID : 4410094995014
Option 4 ID : 4410094995015

Q.14 Select the option that is the most appropriate antonym of the underlined word in the given sentence.

The government's response to the disaster was expeditious and effective.

- Ans 1. lagging
 2. coordinated
 3. decentralised
 4. haphazard

Question ID : 4410091639700
Option 1 ID : 4410096476133
Option 2 ID : 4410096476130
Option 3 ID : 4410096476132
Option 4 ID : 4410096476131

Q.15 Choose the appropriate option to complete the sentence.

Meera narrated ___ incredible story about her travels and shared ___ amusing incident from her childhood.

- Ans 1. the / a
 2. an / an
 3. a / a
 4. the / the

Question ID : 4410091308129
Option 1 ID : 4410095164178
Option 2 ID : 4410095164177
Option 3 ID : 4410095164175
Option 4 ID : 4410095164176

Comprehension:

Read the given passage and answer the questions that follow.

The night was routine, the sky clear, as Malaysia Airlines Flight MH370 soared above the South China Sea. The Boeing 777, carrying 239 passengers and crew, had just begun its journey from Kuala Lumpur to Beijing. Inside the cabin, travellers settled in—some asleep, others watching movies, unaware that they were part of what would become one of aviation's greatest mysteries.

At 1:19 a.m., the pilot's calm voice radioed air traffic control: "Good night, Malaysian three-seven-zero." Minutes later, the plane vanished from radar. No distress signal. No final call. Just silence. As confusion turned to panic, search teams scrambled across vast oceans, chasing scattered leads. Satellite data suggested the aircraft had veered off course, flying for hours into the remote Indian Ocean.

Despite the largest and most expensive search effort in aviation history, only a few debris pieces were ever found. Theories arose—mechanical failure, pilot intervention, hijacking—but the truth remained elusive. Families waited for answers that never came.

Even today, the fate of MH370 haunts the world. It is a chilling reminder of how, in an age of technology, a massive aircraft can simply disappear—leaving behind only questions, grief and an endless sky.

SubQuestion No : 16

Q.16 What made the disappearance of MH370 unusual?

- Ans**
- 1. It vanished from radar without any warning or final communication.
 - 2. The flight was never scheduled to take off that day.
 - 3. The aircraft sent multiple distress signals before vanishing.
 - 4. It was found shortly after crashing into the sea.

Question ID : 44100928667

Option 1 ID : 441009114191

Option 2 ID : 441009114194

Option 3 ID : 441009114192

Option 4 ID : 441009114193

Comprehension:

Read the given passage and answer the questions that follow.

The night was routine, the sky clear, as Malaysia Airlines Flight MH370 soared above the South China Sea. The Boeing 777, carrying 239 passengers and crew, had just begun its journey from Kuala Lumpur to Beijing. Inside the cabin, travellers settled in—some asleep, others watching movies, unaware that they were part of what would become one of aviation's greatest mysteries.

At 1:19 a.m., the pilot's calm voice radioed air traffic control: "Good night, Malaysian three-seven-zero." Minutes later, the plane vanished from radar. No distress signal. No final call. Just silence. As confusion turned to panic, search teams scrambled across vast oceans, chasing scattered leads. Satellite data suggested the aircraft had veered off course, flying for hours into the remote Indian Ocean.

Despite the largest and most expensive search effort in aviation history, only a few debris pieces were ever found. Theories arose—mechanical failure, pilot intervention, hijacking—but the truth remained elusive. Families waited for answers that never came.

Even today, the fate of MH370 haunts the world. It is a chilling reminder of how, in an age of technology, a massive aircraft can simply disappear—leaving behind only questions, grief and an endless sky.

SubQuestion No : 17

Q.17 What is one of the biggest challenges in solving the MH370 mystery?

- Ans
- 1. The remote location where the plane is believed to have crashed
 - 2. The absence of eyewitnesses in the cockpit
 - 3. The overwhelming amount of evidence collected
 - 4. The clear recordings of the final moments of the flight

Question ID : 44100928668
Option 1 ID : 441009114196
Option 2 ID : 441009114195
Option 3 ID : 441009114197
Option 4 ID : 441009114198

Comprehension:

Read the given passage and answer the questions that follow.

The night was routine, the sky clear, as Malaysia Airlines Flight MH370 soared above the South China Sea. The Boeing 777, carrying 239 passengers and crew, had just begun its journey from Kuala Lumpur to Beijing. Inside the cabin, travellers settled in—some asleep, others watching movies, unaware that they were part of what would become one of aviation's greatest mysteries.

At 1:19 a.m., the pilot's calm voice radioed air traffic control: "Good night, Malaysian three-seven-zero." Minutes later, the plane vanished from radar. No distress signal. No final call. Just silence. As confusion turned to panic, search teams scrambled across vast oceans, chasing scattered leads. Satellite data suggested the aircraft had veered off course, flying for hours into the remote Indian Ocean.

Despite the largest and most expensive search effort in aviation history, only a few debris pieces were ever found. Theories arose—mechanical failure, pilot intervention, hijacking—but the truth remained elusive. Families waited for answers that never came.

Even today, the fate of MH370 haunts the world. It is a chilling reminder of how, in an age of technology, a massive aircraft can simply disappear—leaving behind only questions, grief and an endless sky.

SubQuestion No : 18

Q. 18 What does the search for MH370 highlight about modern aviation?

- Ans**
- 1. The efficiency of aviation safety protocols
 - 2. The ability of technology to prevent aircraft disappearances
 - 3. The importance of passenger cooperation during flights
 - 4. The challenges of tracking planes over vast oceans

Question ID : 44100928669
Option 1 ID : 441009114199
Option 2 ID : 441009114200
Option 3 ID : 441009114202
Option 4 ID : 441009114201

Comprehension:

Read the given passage and answer the questions that follow.

The night was routine, the sky clear, as Malaysia Airlines Flight MH370 soared above the South China Sea. The Boeing 777, carrying 239 passengers and crew, had just begun its journey from Kuala Lumpur to Beijing. Inside the cabin, travellers settled in—some asleep, others watching movies, unaware that they were part of what would become one of aviation's greatest mysteries.

At 1:19 a.m., the pilot's calm voice radioed air traffic control: "Good night, Malaysian three-seven-zero." Minutes later, the plane vanished from radar. No distress signal. No final call. Just silence. As confusion turned to panic, search teams scrambled across vast oceans, chasing scattered leads. Satellite data suggested the aircraft had veered off course, flying for hours into the remote Indian Ocean.

Despite the largest and most expensive search effort in aviation history, only a few debris pieces were ever found. Theories arose—mechanical failure, pilot intervention, hijacking—but the truth remained elusive. Families waited for answers that never came.

Even today, the fate of MH370 haunts the world. It is a chilling reminder of how, in an age of technology, a massive aircraft can simply disappear—leaving behind only questions, grief and an endless sky.

SubQuestion No : 19

Q.19 Select the most appropriate ANTONYM of the word 'elusive' in the context of the MH370 investigation.

- Ans** 1. Obvious
 2. Mysterious
 3. Hidden
 4. Unclear

Question ID : 44100928670
Option 1 ID : 441009114204
Option 2 ID : 441009114206
Option 3 ID : 441009114203
Option 4 ID : 441009114205

Comprehension:

Read the given passage and answer the questions that follow.

The night was routine, the sky clear, as Malaysia Airlines Flight MH370 soared above the South China Sea. The Boeing 777, carrying 239 passengers and crew, had just begun its journey from Kuala Lumpur to Beijing. Inside the cabin, travellers settled in—some asleep, others watching movies, unaware that they were part of what would become one of aviation's greatest mysteries.

At 1:19 a.m., the pilot's calm voice radioed air traffic control: "Good night, Malaysian three-seven-zero." Minutes later, the plane vanished from radar. No distress signal. No final call. Just silence. As confusion turned to panic, search teams scrambled across vast oceans, chasing scattered leads. Satellite data suggested the aircraft had veered off course, flying for hours into the remote Indian Ocean.

Despite the largest and most expensive search effort in aviation history, only a few debris pieces were ever found. Theories arose—mechanical failure, pilot intervention, hijacking—but the truth remained elusive. Families waited for answers that never came.

Even today, the fate of MH370 haunts the world. It is a chilling reminder of how, in an age of technology, a massive aircraft can simply disappear—leaving behind only questions, grief and an endless sky.

SubQuestion No : 20

Q.20 What is the overall tone of the passage?

- Ans
- 1. Humorous and lighthearted
 - 2. Mysterious and tragic
 - 3. Hopeful and optimistic
 - 4. Aggressive and confrontational

Question ID : 44100928671
Option 1 ID : 441009114209
Option 2 ID : 441009114207
Option 3 ID : 441009114208
Option 4 ID : 441009114210

Section : Hindi Language and Comprehension

Q.1 निम्नांकित विकल्पों में से उचित कारक चिन्ह का चयन करके वाक्य पूर्ण करें-
सभी बच्चों मिलकर अपने विद्यालय के मैदान की सफाई की।

- Ans
- 1. ने
 - 2. को
 - 3. के
 - 4. से

Question ID : 4410091254718
Option 1 ID : 4410094951854
Option 2 ID : 4410094951857
Option 3 ID : 4410094951856
Option 4 ID : 4410094951855

Q.2 निम्नलिखित वाक्य के रेखांकित शब्द का पर्यायवाची कौन-सा नहीं है?
'मेरी माँ मुझे बहुत प्रेम करती है।'

- Ans
- 1. जननी
 - 2. पूजनीय
 - 3. माता
 - 4. मैया

Question ID : 4410091530834
Option 1 ID : 4410096046422
Option 2 ID : 4410096046420
Option 3 ID : 4410096046419
Option 4 ID : 4410096046421

Q.3 निम्नलिखित में से किस मुहावरे का अर्थ संगत नहीं है?

- Ans
- 1. हवा के घोड़े पर सवार होना - आने-जाने की जल्दी मचाना
 - 2. सिट्टी-पिट्टी गुम हो जाना - होश उड़ जाना
 - 3. सोने का घर मिट्टी कर देना - आने-जाने की जल्दी मचाना
 - 4. फट पड़ना - एकदम गुस्से में हो जाना

Question ID : 4410091626157
Option 1 ID : 4410096423030
Option 2 ID : 4410096423031
Option 3 ID : 4410096423032
Option 4 ID : 4410096423029

Q.4 निम्नलिखित वाक्य में से वर्तनी त्रुटि की पहचान कर वाक्य को शुद्ध कीजिए।
'भरथ, अपने बड़े भाई श्रीराम के प्रति गहरी निष्ठा और सम्मान का भाव रखते थे।'

- Ans
- 1. भरथ
 - 2. प्रति
 - 3. सम्मान
 - 4. निष्ठा

Question ID : 4410091629715
Option 1 ID : 4410096436949
Option 2 ID : 4410096436948
Option 3 ID : 4410096436947
Option 4 ID : 4410096436946

Q.5 नीचे दिए गए वाक्यों में से वर्तनी की दृष्टि से शुद्ध वाक्य का चयन कीजिए।

- Ans
- 1. संसारिक समस्या क्या है ?
 - 2. मालन ताज़ा फूल लाई है।
 - 3. अत्यधिक दुःख सहा नहीं जाता ।
 - 4. यह नेता मंत्रीपरिषद् में नहीं है।

Question ID : 4410091526753
Option 1 ID : 4410096030122
Option 2 ID : 4410096030125
Option 3 ID : 4410096030123
Option 4 ID : 4410096030124

Q.6 दिए गए वाक्य को सही क्रम में लगाइए-
(1)रोज (2)करना (3)व्यायाम (4)हमें (5)चाहिए

- Ans 1. 5 1 3 2 4
 2. 4 1 3 2 5
 3. 1 2 3 4 5
 4. 3 4 5 1 2

Question ID : 4410091141423
 Option 1 ID : 4410094500651
 Option 2 ID : 4410094500648
 Option 3 ID : 4410094500649
 Option 4 ID : 4410094500650

Q.7 निम्नलिखित वाक्य में रेखांकित शब्द के पर्यायवाची शब्द का चयन दिए गए विकल्पों में से कीजिए-
शरद पूर्णिमा के 'चाँद' की छटा ही निराली होती है।

- Ans 1. इन्दु
 2. मोहिनी
 3. रत्नेश
 4. दिवाकर

Question ID : 4410091618506
 Option 1 ID : 4410096392895
 Option 2 ID : 4410096392897
 Option 3 ID : 4410096392898
 Option 4 ID : 4410096392896

Q.8 निम्नलिखित वाक्यों को ध्यान से पढ़कर दिए गए विकल्पों में से उचित क्रम चुनिए -

- दूसरी मस्तिष्क की
- मनुष्य की समस्याएँ दो प्रकार की हैं
- किन्तु प्रत्येक मनुष्य की अंतिम परिणति मृत्यु है
- एक समस्या शरीर की है

- Ans 1. 3, 2, 4, 1
 2. 4, 1, 3, 2
 3. 1, 3, 4, 2
 4. 2, 4, 1, 3

Question ID : 441009317109
 Option 1 ID : 4410091234933
 Option 2 ID : 4410091234932
 Option 3 ID : 4410091234931
 Option 4 ID : 4410091234930

Q.9 निम्न में से 'ताल ठोकना' मुहावरे का सही अर्थ कौन-सा है ?

- Ans 1. लड़ने के लिए ललकार देना
 2. नष्ट-भ्रष्ट होना
 3. बुरे दिन आना
 4. इशारों पर चलना

Question ID : 4410091626221
 Option 1 ID : 4410096423281
 Option 2 ID : 4410096423283
 Option 3 ID : 4410096423282
 Option 4 ID : 4410096423284

Q.10 सही क्रिया का चयन कर वाक्य को पूर्ण कीजिए।
 सानिया पिंजड़े से तोतादेती है।

- Ans 1. खिला
 2. सिला
 3. उड़ा
 4. बैठा

Question ID : 4410091253828
 Option 1 ID : 4410094948371
 Option 2 ID : 4410094948372
 Option 3 ID : 4410094948369
 Option 4 ID : 4410094948370

Q.11 दिये गए वाक्य के रेखांकित शब्द का विलोम शब्द चुनिए -

साहित्यकार ने कहानी के माध्यम से सामाजिक व्यवस्था की आलोचना परोक्ष रूप से की।

- Ans 1. अप्रत्यक्ष
 2. प्रमाण
 3. प्रत्यक्ष
 4. साक्ष्य

Question ID : 4410091547314
 Option 1 ID : 4410096112126
 Option 2 ID : 4410096112124
 Option 3 ID : 4410096112123
 Option 4 ID : 4410096112125

Q.12 निम्न में से 'अंगारों पर पैर रखना' मुहावरे का सही अर्थ बताइए -

- Ans
- 1. अपने को होशियार समझना
 - 2. रहने का संयोग न होना
 - 3. जान-बूझकर हानिकारक कार्य करना
 - 4. कुछ दिनों की शानोशौकत

Question ID : 4410091526270
Option 1 ID : 4410096028200
Option 2 ID : 4410096028199
Option 3 ID : 4410096028201
Option 4 ID : 4410096028198

Q.13 उचित विशेषण शब्द चुनकर वाक्य पूरा कीजिए।
' _____ गधा भागा जा रहा है। '

- Ans
- 1. वे
 - 2. वह
 - 3. जितना
 - 4. जिस

Question ID : 4410091288612
Option 1 ID : 4410095086318
Option 2 ID : 4410095086320
Option 3 ID : 4410095086321
Option 4 ID : 4410095086319

Q.14 उपयुक्त अधिकरण कारक के प्रयोग से वाक्य को पूर्ण कीजिए।
बच्चा पलंग सोया है।

- Ans
- 1. से
 - 2. पर
 - 3. के लिए
 - 4. में

Question ID : 4410091251181
Option 1 ID : 4410094937908
Option 2 ID : 4410094937906
Option 3 ID : 4410094937905
Option 4 ID : 4410094937907

Q.15 उपयुक्त 'क्रिया-विशेषण' का चयन कर रिक्त स्थान की पूर्ति कीजिए।
'कलसे बारिश होने लगी थी।'

- Ans 1. अचानक
 2. ठीक
 3. घर-घर
 4. दिन-रात

Question ID : 4410091524873
 Option 1 ID : 4410096022696
 Option 2 ID : 4410096022695
 Option 3 ID : 4410096022698
 Option 4 ID : 4410096022697

Comprehension:

निम्नलिखित गद्यांश के आधार पर पूछे गए प्रश्नों के सही विकल्प का चयन करें-
 हमारी सर्वोच्च प्राथमिकता जनसंख्या वृद्धि रोकना है। यह स्पष्ट है कि परिवार के आकार पर आर्थिक विकास और शिक्षा का बहुत प्रभाव पड़ता है। यहाँ आर्थिक विकास का मतलब पाश्चात्य मतानुसार भौतिकवाद नहीं जहाँ बच्चों को बोझ माना जाता है। हमारे लिए तो यह सम्मानपूर्वक जीने के स्तर से सम्बन्धित है। यह मौजूदा सम्पत्ति के समतामूलक विवरण पर ही निर्भर नहीं है वरन् ऐसी शैली अपनाने से सम्बन्धित है जिसमें अस्सी करोड़ लोगों की ऊर्जा का बेहतर इस्तेमाल हो सके। इसी प्रकार स्त्री-शिक्षा भी है। यह समाज में एक नए प्रकार का चिन्तन पैदा करेगी जिससे सामाजिक और आर्थिक विकास के नए आयाम खुलेंगे और साथ ही बच्चों के विकास का नया रास्ता भी खुलेगा। अतः जनसंख्या की समस्या सामाजिक है। यह अकेले सरकार नहीं सुलझा सकती। केन्द्रीयकरण से हटकर इसे ग्राम-ग्राम, व्यक्ति-व्यक्ति तक पहुँचाना होगा। जब तक यह जन आन्दोलन नहीं बन जाता तब तक सफलता मिलना संदिग्ध है।

SubQuestion No : 16

Q.16 परिवार के आकार को मुख्य रूप से कौन से दो कारक प्रभावित करते हैं?

- Ans 1. धार्मिक मान्यताएँ और परंपराएँ
 2. आर्थिक विकास और शिक्षा
 3. सरकारी कानून और दंड
 4. शहरीकरण और आधुनिकता

Question ID : 4410091617864
 Option 1 ID : 4410096390341
 Option 2 ID : 4410096390340
 Option 3 ID : 4410096390342
 Option 4 ID : 4410096390339

Comprehension:

निम्नलिखित गद्यांश के आधार पर पूछे गए प्रश्नों के सही विकल्प का चयन करें-
हमारी सर्वोच्च प्राथमिकता जनसंख्या वृद्धि रोकना है। यह स्पष्ट है कि परिवार के आकार पर आर्थिक विकास और शिक्षा का बहुत प्रभाव पड़ता है। यहाँ आर्थिक विकास का मतलब पाश्चात्य मतानुसार भौतिकवाद नहीं जहाँ बच्चों को बोझ माना जाता है। हमारे लिए तो यह सम्मानपूर्वक जीने के स्तर से सम्बन्धित है। यह मौजूदा सम्पत्ति के समतामूलक विवरण पर ही निर्भर नहीं है वरन् ऐसी शैली अपनाने से सम्बन्धित है जिसमें अस्सी करोड़ लोगों की ऊर्जा का बेहतर इस्तेमाल हो सके। इसी प्रकार स्त्री-शिक्षा भी है। यह समाज में एक नए प्रकार का चिन्तन पैदा करेगी जिससे सामाजिक और आर्थिक विकास के नए आयाम खुलेंगे और साथ ही बच्चों के विकास का नया रास्ता भी खुलेगा। अतः जनसंख्या की समस्या सामाजिक है। यह अकेले सरकार नहीं सुलझा सकती। केन्द्रीयकरण से हटकर इसे ग्राम-ग्राम, व्यक्ति-व्यक्ति तक पहुँचाना होगा। जब तक यह जन आन्दोलन नहीं बन जाता तब तक सफलता मिलना संदिग्ध है।

SubQuestion No : 17

Q.17 लेखक के अनुसार 'आर्थिक विकास' का भारतीय संदर्भ में क्या अर्थ है?

- Ans
- 1. पाश्चात्य भौतिकवाद को अपनाना
 - 2. विदेशी निवेश में वृद्धि करना
 - 3. सम्मानपूर्वक जीने के स्तर को प्राप्त करना
 - 4. केवल संपत्ति का समान वितरण करना

Question ID : 4410091617865

Option 1 ID : 4410096390343

Option 2 ID : 4410096390345

Option 3 ID : 4410096390344

Option 4 ID : 4410096390346

Comprehension:

निम्नलिखित गद्यांश के आधार पर पूछे गए प्रश्नों के सही विकल्प का चयन करें-
हमारी सर्वोच्च प्राथमिकता जनसंख्या वृद्धि रोकना है। यह स्पष्ट है कि परिवार के आकार पर आर्थिक विकास और शिक्षा का बहुत प्रभाव पड़ता है। यहाँ आर्थिक विकास का मतलब पाश्चात्य मतानुसार भौतिकवाद नहीं जहाँ बच्चों को बोझ माना जाता है। हमारे लिए तो यह सम्मानपूर्वक जीने के स्तर से सम्बन्धित है। यह मौजूदा सम्पत्ति के समतामूलक विवरण पर ही निर्भर नहीं है वरन् ऐसी शैली अपनाने से सम्बन्धित है जिसमें अस्सी करोड़ लोगों की ऊर्जा का बेहतर इस्तेमाल हो सके। इसी प्रकार स्त्री-शिक्षा भी है। यह समाज में एक नए प्रकार का चिन्तन पैदा करेगी जिससे सामाजिक और आर्थिक विकास के नए आयाम खुलेंगे और साथ ही बच्चों के विकास का नया रास्ता भी खुलेगा। अतः जनसंख्या की समस्या सामाजिक है। यह अकेले सरकार नहीं सुलझा सकती। केन्द्रीयकरण से हटकर इसे ग्राम-ग्राम, व्यक्ति-व्यक्ति तक पहुँचाना होगा। जब तक यह जन आन्दोलन नहीं बन जाता तब तक सफलता मिलना संदिग्ध है।

SubQuestion No : 18

Q.18 स्त्री-शिक्षा को जनसंख्या नियंत्रण में क्यों महत्त्वपूर्ण माना गया है?

- Ans
- 1. यह सरकारी बोझ कम करती है
 - 2. इससे स्त्रियाँ केवल नौकरी कर सकेंगी
 - 3. इससे जनसंख्या का केंद्रीकरण रुकता है
 - 4. यह समाज में नया चिन्तन पैदा करती है

Question ID : 4410091617866

Option 1 ID : 4410096390348

Option 2 ID : 4410096390347

Option 3 ID : 4410096390349

Option 4 ID : 4410096390350

Comprehension:

निम्नलिखित गद्यांश के आधार पर पूछे गए प्रश्नों के सही विकल्प का चयन करें-
हमारी सर्वोच्च प्राथमिकता जनसंख्या वृद्धि रोकना है। यह स्पष्ट है कि परिवार के आकार पर आर्थिक विकास और शिक्षा का बहुत प्रभाव पड़ता है। यहाँ आर्थिक विकास का मतलब पाश्चात्य मतानुसार भौतिकवाद नहीं जहाँ बच्चों को बोझ माना जाता है। हमारे लिए तो यह सम्मानपूर्वक जीने के स्तर से सम्बन्धित है। यह मौजूदा सम्पत्ति के समतामूलक विवरण पर ही निर्भर नहीं है वरन् ऐसी शैली अपनाने से सम्बन्धित है जिसमें अस्सी करोड़ लोगों की ऊर्जा का बेहतर इस्तेमाल हो सके। इसी प्रकार स्त्री-शिक्षा भी है। यह समाज में एक नए प्रकार का चिन्तन पैदा करेगी जिससे सामाजिक और आर्थिक विकास के नए आयाम खुलेंगे और साथ ही बच्चों के विकास का नया रास्ता भी खुलेगा। अतः जनसंख्या की समस्या सामाजिक है। यह अकेले सरकार नहीं सुलझा सकती। केन्द्रीयकरण से हटकर इसे ग्राम-ग्राम, व्यक्ति-व्यक्ति तक पहुँचाना होगा। जब तक यह जन आन्दोलन नहीं बन जाता तब तक सफलता मिलना संदिग्ध है।

SubQuestion No : 19**Q.19 जनसंख्या नियंत्रण में सफलता मिलने की संभावना कब तक संदिग्ध है?**

- Ans
- 1. जब तक अस्सी करोड़ लोग शिक्षित न हो जाएँ
 - 2. जब तक नई तकनीक न आ जाए
 - 3. जब तक सरकार कड़े नियम न बनाए
 - 4. जब तक यह एक जन आंदोलन नहीं बन जाता

Question ID : 4410091617867

Option 1 ID : 4410096390353

Option 2 ID : 4410096390351

Option 3 ID : 4410096390354

Option 4 ID : 4410096390352

Comprehension:

निम्नलिखित गद्यांश के आधार पर पूछे गए प्रश्नों के सही विकल्प का चयन करें-
हमारी सर्वोच्च प्राथमिकता जनसंख्या वृद्धि रोकना है। यह स्पष्ट है कि परिवार के आकार पर आर्थिक विकास और शिक्षा का बहुत प्रभाव पड़ता है। यहाँ आर्थिक विकास का मतलब पाश्चात्य मतानुसार भौतिकवाद नहीं जहाँ बच्चों को बोझ माना जाता है। हमारे लिए तो यह सम्मानपूर्वक जीने के स्तर से सम्बन्धित है। यह मौजूदा सम्पत्ति के समतामूलक विवरण पर ही निर्भर नहीं है वरन् ऐसी शैली अपनाने से सम्बन्धित है जिसमें अस्सी करोड़ लोगों की ऊर्जा का बेहतर इस्तेमाल हो सके। इसी प्रकार स्त्री-शिक्षा भी है। यह समाज में एक नए प्रकार का चिन्तन पैदा करेगी जिससे सामाजिक और आर्थिक विकास के नए आयाम खुलेंगे और साथ ही बच्चों के विकास का नया रास्ता भी खुलेगा। अतः जनसंख्या की समस्या सामाजिक है। यह अकेले सरकार नहीं सुलझा सकती। केन्द्रीयकरण से हटकर इसे ग्राम-ग्राम, व्यक्ति-व्यक्ति तक पहुँचाना होगा। जब तक यह जन आन्दोलन नहीं बन जाता तब तक सफलता मिलना संदिग्ध है।

SubQuestion No : 20**Q.20 लेखक ने 'केन्द्रीकरण' के विरुद्ध क्या सुझाव दिया है?**

- Ans
- 1. सभी शक्तियाँ केंद्र सरकार को देना
 - 2. विदेशी मॉडल को पूर्णतः लागू करना
 - 3. सिर्फ शहरों में अस्पताल खोलना
 - 4. योजना को ग्राम और व्यक्ति स्तर तक पहुँचाना

Question ID : 4410091617868

Option 1 ID : 4410096390355

Option 2 ID : 4410096390358

Option 3 ID : 4410096390356

Option 4 ID : 4410096390357

Q.1 शिक्षा के संदर्भ में पाठ्यचर्या को निम्नलिखित में से कौन-सा विकल्प सर्वोत्तम रूप से परिभाषित करता है?

- Ans
- 1. विद्यालय में उपयोग की जाने वाली पाठ्यपुस्तकों की सूची
 - 2. परीक्षा के प्रश्नपत्रों का संग्रह
 - 3. विद्यालय की छुट्टियों और कार्यक्रमों की समय सारणी
 - 4. अधिगम अनुभवों का एक नियोजित समूह

Question ID : 4410091649679

Option 1 ID : 4410096514847

Option 2 ID : 4410096514849

Option 3 ID : 4410096514848

Option 4 ID : 4410096514846

Q.2 एक शैक्षिक सुधार प्रस्ताव के मूल्यांकन के दौरान, आलोचकों का तर्क है कि यह प्रस्ताव उद्देशिका में उल्लिखित लोकतांत्रिक मूल्यों को बनाए रखने में विफल रहता है। निम्नलिखित में से कौन-सा सुधार उपाय, संविधान के लोकतांत्रिक लोकाचार (ethos) का सबसे स्पष्ट रूप से खंडन करेगा?

- Ans
- 1. हितधारकों की भागीदारी के बिना सभी निर्णयन का केंद्रीकरण करना
 - 2. अभिभावक और शिक्षकों से समय-समय पर फीडबैक लेने की अनुमति देना
 - 3. विद्यालय की गतिविधियों के लिए विद्यार्थी परिषदों की स्थापना
 - 4. विद्यालय निधि के लिए पारदर्शी वित्तीय लेखापरीक्षा शुरू करना

Question ID : 4410091621481

Option 1 ID : 4410096404727

Option 2 ID : 4410096404729

Option 3 ID : 4410096404730

Option 4 ID : 4410096404728

Q.3 विकास और संवृद्धि का कौन-सा सिद्धांत तब प्रदर्शित होता है जब एक बालक सिर से अधोमुख (head downward) की ओर गति को नियंत्रित करना सीखता है?

- Ans
- 1. अन्योन्य सिद्धांत (Reciprocal principle)
 - 2. समांतता सिद्धांत (Equipfinality principle)
 - 3. शिरः पदाभिमुख सिद्धांत (Cephalocaudal principle)
 - 4. समीप-दूराभिमुख सिद्धांत (Proximodistal principle)

Question ID : 4410091630111

Option 1 ID : 4410096438551

Option 2 ID : 4410096438552

Option 3 ID : 4410096438550

Option 4 ID : 4410096438553

Q.4 कौन-सी विकासात्मक प्रक्रिया सर्वोत्तम रूप से यह समझाती है कि प्रारंभिक बाल्यावस्था में सूक्ष्म गामक कौशल सामान्यतः सकल गामक कौशल की तुलना में बाद में क्यों परिपक्व होते हैं?

- Ans 1. समीपदूराभिमुख (Proximodistal) विकास
 2. सामाजिक अधिगम
 3. संज्ञानात्मक परिपक्वता
 4. मस्तकाधोमुखी (Cephalocaudal) विकास

Question ID : 4410091538052
 Option 1 ID : 4410096075473
 Option 2 ID : 4410096075476
 Option 3 ID : 4410096075475
 Option 4 ID : 4410096075474

Q.5 संवृद्धि और विकास का कौन-सा सिद्धांत यह बताता है कि बच्चे अपने पैरों और पंजों पर नियंत्रण प्राप्त करने से पहले अपने सिर और ऊपरी शरीर की गतिविधियों पर नियंत्रण क्यों प्राप्त कर लेते हैं?

- Ans 1. वैयक्तिक भिन्नताओं का सिद्धांत (Principle of individual differences)
 2. शिर-पदाभिमुख सिद्धांत (Cephalocaudal principle)
 3. समीपदूराभिमुख सिद्धांत (Proximodistal principle)
 4. परिपक्वन (Maturation)

Question ID : 4410091607639
 Option 1 ID : 4410096349523
 Option 2 ID : 4410096349520
 Option 3 ID : 4410096349521
 Option 4 ID : 4410096349522

Q.6 एक बालक _____ के माध्यम से यह सीखता है कि कौन-सा व्यवहार स्वीकार्य है और कौन-सा अस्वीकार्य है।

- Ans 1. केवल दंड
 2. आनुवंशिकता
 3. शारीरिक विकास
 4. समाजीकरण

Question ID : 4410091570638
 Option 1 ID : 4410096203527
 Option 2 ID : 4410096203529
 Option 3 ID : 4410096203530
 Option 4 ID : 4410096203528

Q.7 ऐसी स्थिति जहां आवश्यकता से अधिक लोग काम कर रहे हों, उसे _____ कहा जाता है।

Ans 1. प्रच्छन्न बेरोजगारी

2. मौसमी बेरोजगारी

3. संरचनात्मक बेरोजगारी

4. चक्रीय बेरोजगारी

Question ID : 4410091544061

Option 1 ID : 4410096099343

Option 2 ID : 4410096099345

Option 3 ID : 4410096099346

Option 4 ID : 4410096099344

Q.8 बच्चे किस अवस्था में यह समझने की क्षमता विकसित करते हैं कि वस्तुएँ दृष्टि से ओझल होने पर भी मौजूद रहती हैं?

Ans 1. संवेदीप्रेरक अवस्था

2. पूर्व-संक्रियात्मक अवस्था

3. औपचारिक संक्रियात्मक अवस्था

4. मूर्त संक्रियात्मक अवस्था

Question ID : 4410091630960

Option 1 ID : 4410096442067

Option 2 ID : 4410096442066

Option 3 ID : 4410096442069

Option 4 ID : 4410096442068

Q.9 कोई राज्य सरकार RTE मानकों का अनुपालन करने के लिए अपने उच्च प्राथमिक विद्यालयों में शिष्य-शिक्षक अनुपात की समीक्षा कर रही है। अधिनियम के अनुसार, राज्य को किस अनुपात का लक्ष्य रखना चाहिए?

Ans 1. उच्च प्राथमिक विद्यालयों में शिष्य-शिक्षक अनुपात 35:1

2. उच्च प्राथमिक विद्यालयों में शिष्य-शिक्षक अनुपात 25:1

3. उच्च प्राथमिक विद्यालयों में शिष्य-शिक्षक अनुपात 20:1

4. उच्च प्राथमिक विद्यालयों में शिष्य-शिक्षक अनुपात 50:1

Question ID : 4410091682713

Option 1 ID : 4410096638106

Option 2 ID : 4410096638108

Option 3 ID : 4410096638109

Option 4 ID : 4410096638107

Q.10 रिपोर्ट में वर्णित अनुसार, मुदलियार आयोग का मुख्य ध्यान _____ पर था।

- Ans
- 1. पूर्व विद्यालय का विस्तार
 - 2. पाठ्यपुस्तकों में सुधार
 - 3. विश्वविद्यालयों का विस्तार
 - 4. माध्यमिक शिक्षा में सुधार

Question ID : 4410091539543
Option 1 ID : 4410096081509
Option 2 ID : 4410096081510
Option 3 ID : 4410096081511
Option 4 ID : 4410096081512

Q.11 RTE अधिनियम, 2009 का कौन-सा प्रावधान प्राथमिक शिक्षा के सार्वभौमीकरण (UEE) के मूल उद्देश्य का प्रत्यक्ष रूप से प्रतिनिधित्व करता है?

- Ans
- 1. शैक्षिक क्षमता का विस्तार करने के लिए अवसंरचना विकास और साझेदारी को प्रोत्साहित करना
 - 2. विद्यालय आधारित कल्याणकारी योजनाओं के माध्यम से पोषण संबंधी सहायता प्रदान करके शिक्षा में प्रतिधारण (retention) बढ़ाना
 - 3. राज्य को 6-14 वर्ष की आयु के सभी बच्चों को निःशुल्क और अनिवार्य शिक्षा प्रदान करने का आदेश देना
 - 4. शिक्षण की गुणवत्ता में सुधार के लिए शिक्षकों के आवधिक मूल्यांकन और योग्यता मानदंडों को अनिवार्य करना

Question ID : 4410091628615
Option 1 ID : 4410096432609
Option 2 ID : 4410096432607
Option 3 ID : 4410096432606
Option 4 ID : 4410096432608

Q.12 शैशवावस्था (infancy) के दौरान समाजीकरण (socialization) का सबसे महत्वपूर्ण पहलू क्या है?

- Ans
- 1. सहकर्मी संबंधों का निर्माण
 - 2. देखभालकर्ता के साथ सुरक्षित लगाव
 - 3. सामाजिक नियमों और मानदंडों को सीखना
 - 4. भाषा कौशल का विकास

Question ID : 4410091679630
Option 1 ID : 4410096626697
Option 2 ID : 4410096626698
Option 3 ID : 4410096626699
Option 4 ID : 4410096626700

Q.13 प्राथमिक शिक्षा के सार्वभौमीकरण (UEE) के कार्यान्वयन ने भारत में माध्यमिक शिक्षा की मांग को किस प्रकार प्रभावित किया?

- Ans
- 1. इससे शिक्षा में घरेलू रुचि कम हो गई।
 - 2. इससे माध्यमिक शिक्षा की मांग बढ़ी।
 - 3. इसने माध्यमिक विद्यालयों की आवश्यकता को कम कर दिया।
 - 4. माध्यमिक शिक्षा पर इसका कोई प्रभाव नहीं पड़ा।

Question ID : 4410091679541
Option 1 ID : 4410096626351
Option 2 ID : 4410096626352
Option 3 ID : 4410096626349
Option 4 ID : 4410096626350

Q.14 शिक्षा के संदर्भ में 'समाजीकरण' मुख्य रूप से किसको संदर्भित करता है?

- Ans
- 1. वह प्रक्रिया जिसके द्वारा व्यक्ति अपने समाज के मानदंडों, महत्वों और व्यवहारों को सीखते और अपनाते हैं।
 - 2. कक्षा-कक्ष में केवल गणित और विज्ञान जैसे अकादमिक विषयों के शिक्षण की प्रक्रिया।
 - 3. विविध व्यवस्थापन में संप्रेषण के लिए एक नई भाषा सीखने की प्रक्रिया।
 - 4. विद्यालयी परिवेश में सहपाठी समूहों के साथ केवल मित्रता बनाने की क्रिया।

Question ID : 4410091605830
Option 1 ID : 4410096342368
Option 2 ID : 4410096342369
Option 3 ID : 4410096342371
Option 4 ID : 4410096342370

Q.15 वाराणसी की एक शिक्षिका शिशुओं में पेशीय विकास को बढ़ावा देना चाहती है। एक वर्ष से कम आयु के बच्चों में स्थूल और सूक्ष्म दोनों प्रकार के पेशीय कौशल के विकास के लिए कौन-सी गतिविधि सबसे उपयुक्त होगी?

- Ans
- 1. रोजाना चित्र-पुस्तकों को उच्च स्वर में पढ़ना और लोरी गाना
 - 2. दौड़ने और कूदने वाले सामूहिक खेलों को प्रोत्साहित करना
 - 3. बच्चों को शर्ट के बटन लगाना और जूतों के फीते बांधना सिखाना
 - 4. बच्चों को पेट के बल लेटने का समय देना और उन्हें रंगीन ब्लॉक पकड़ने के लिए देना

Question ID : 4410091604042
Option 1 ID : 4410096335359
Option 2 ID : 4410096335360
Option 3 ID : 4410096335361
Option 4 ID : 4410096335358

Q.16 बाल्यावस्था का कौन-सा चरण प्रायः सहपाठी अंतःक्रिया में वृद्धि और मूल सामाजिक कौशल के विकास से चिह्नित होता है?

- Ans 1. प्रारंभिक बाल्यावस्था
 2. किशोरावस्था
 3. मध्य बाल्यावस्था
 4. शैशवावस्था

Question ID : 4410091607399
 Option 1 ID : 4410096348569
 Option 2 ID : 4410096348571
 Option 3 ID : 4410096348570
 Option 4 ID : 4410096348568

Q.17 कोल (Cole) और ब्रूस (Bruce) के अनुसार व्यक्तित्व के विकास में कौन-से कारक योगदान करते हैं?

- Ans 1. सामाजिक संपर्क और परिवेश
 2. आर्थिक स्थिति और शिक्षा
 3. शारीरिक स्वास्थ्य और बुद्धि
 4. आनुवंशिक प्रदाय और सांस्कृतिक परिवेश

Question ID : 4410091648482
 Option 1 ID : 4410096510155
 Option 2 ID : 4410096510154
 Option 3 ID : 4410096510153
 Option 4 ID : 4410096510152

Q.18 पियाजे के सिद्धांत के अनुसार, कौन-सी संज्ञानात्मक क्षमता बालकों में पूर्व-संक्रियात्मक अवस्था को चिह्नित करती है?

- Ans 1. प्रतीकों और भाषा का उपयोग करने की क्षमता
 2. जटिल तार्किक समस्याओं को हल करने की क्षमता
 3. अमूर्त नियमों से सोचने की क्षमता
 4. द्रव्यमान के संरक्षण को समझने की क्षमता

Question ID : 4410091630109
 Option 1 ID : 4410096438542
 Option 2 ID : 4410096438544
 Option 3 ID : 4410096438545
 Option 4 ID : 4410096438543

Q.19 एक शिक्षिका विभिन्न भाषाओं और धर्मों के विद्यार्थियों को एक साथ काम करने में सहायता करने के लिए मिश्रित समूह बनाती है। वह किस समाजीय विशेषता को संबोधित कर रही है?

- Ans
- 1. समाज के भीतर सांस्कृतिक और सामाजिक विविधता
 - 2. संस्थागत भूमिकाओं के माध्यम से सामाजिक स्तरीकरण
 - 3. मानकीय सामाजिक नियंत्रण तंत्र
 - 4. संरचनात्मक प्रकार्यात्मक अन्योन्याश्रय

Question ID : 4410091567590
Option 1 ID : 4410096191661
Option 2 ID : 4410096191660
Option 3 ID : 4410096191662
Option 4 ID : 4410096191663

Q.20 कौन-सा अधिगम संदर्भ, प्राथमिक समाजीकरण को अलग करता है?

- Ans
- 1. औपचारिक संस्थागत नियम
 - 2. वस्तुनिष्ठ प्रतिस्पर्धी चिंतन
 - 3. भावात्मक पारिवारिक अभिविन्यास
 - 4. विशिष्ट पाठ्यचर्या इनपुट

Question ID : 4410091557181
Option 1 ID : 4410096151282
Option 2 ID : 4410096151281
Option 3 ID : 4410096151283
Option 4 ID : 4410096151284

Section : Discipline 2

Q.1 पाठ्यचर्या के संबंध में कक्षा के अंदर और बाहर भाषा किस प्रकार भिन्न रूप में कार्य करती है?

- Ans
- 1. कक्षा के बाहर भाषा का उपयोग केवल मनोरंजन के लिए किया जाता है।
 - 2. भाषा कक्षा में अधिगम और सामाज में संप्रेषण में सहायक होती है।
 - 3. कक्षा के अंदर, भाषा अनौपचारिक होती है; बाहर, यह हमेशा औपचारिक होती है।
 - 4. परिवेश की उपेक्षा करते हुए भाषा एक ही उद्देश्य को पूर्ण करती है।

Question ID : 4410091631458
Option 1 ID : 4410096444051
Option 2 ID : 4410096444048
Option 3 ID : 4410096444049
Option 4 ID : 4410096444050

Q.2 शैक्षणिक अभिलेखों की समीक्षा करते समय, किसी प्रशासक ने पाया कि विभिन्न विद्यालयों में सभी विद्यार्थी गणित में समान प्रकरणों (topics) के समूह का अधिगम कर रहे हैं। यह परिदृश्य पाठ्य-विवरण की किस विशेषता को उजागर करता है?

- Ans
- 1. मूल्यों और मनोवृत्तियों पर ध्यान केंद्रित करना
 - 2. नम्य अधिगम अनुभवों को प्रोत्साहित करना
 - 3. गतिविधियों के माध्यम से पूर्णतावादी विकास को बढ़ावा देना
 - 4. सभी विद्यार्थियों के लिए एक समान विषयवस्तु मानकों को बनाए रखना

Question ID : 4410091683107
Option 1 ID : 4410096639557
Option 2 ID : 4410096639554
Option 3 ID : 4410096639555
Option 4 ID : 4410096639556

Q.3 कक्षाकक्ष के लिए सहपाठी अनुशिक्षण प्रोग्राम डिजाइन करते समय, कौन-सी विधि अनुशिक्षकों और उपशिक्षार्थियों दोनों के लिए परस्पर शैक्षिक लाभ को सबसे प्रभावी तरीके से बढ़ावा देता है?

- Ans
- 1. केवल निश्चित विद्यार्थी ग्रुप्स का उपयोग करना
 - 2. केवल समूह कार्य पर फोकस करना
 - 3. नियमित रूप से अनुशिक्षक और उपशिक्षार्थी की भूमिकाओं का क्रमावर्तन
 - 4. केवल उच्च उपलब्धियों को अनुशिक्षकों के रूप में नियुक्त करना

Question ID : 4410091678979
Option 1 ID : 4410096624127
Option 2 ID : 4410096624128
Option 3 ID : 4410096624125
Option 4 ID : 4410096624126

Q.4 सकारात्मक अभिलक्षणों की एक सूची के माध्यम से विद्यार्थियों के चरित्र पर सकारात्मक प्रभाव डालने के स्कूल के प्रयास का एक सामान्य तरीका कौन-सा उपागम है?

- Ans
- 1. सेवा अधिगम (Service learning)
 - 2. सामाजिक और संवेगात्मक अधिगम (Social and emotional learning)
 - 3. संज्ञानात्मक उपागम (Cognitive approach)
 - 4. मूल्य विवरण उपागम (Value statement approach)

Question ID : 4410091546665
Option 1 ID : 4410096109541
Option 2 ID : 4410096109540
Option 3 ID : 4410096109542
Option 4 ID : 4410096109539

Q.5 मैकस्वान के न्यूनतमवादी उपागम (MacSwan's minimalist approach) के अनुसार निम्नलिखित में से कौन-सा, कोड परिवर्तन को सीमित करता है?

- Ans
- 1. भाषाओं के मिश्रण पर सार्वभौमिक प्रतिबंध
 - 2. मिश्रित व्याकरण की आवश्यकताएँ
 - 3. केवल औपचारिक भाषा का प्रयोग
 - 4. किसी एक भाषा के लिए व्यक्तिगत प्राथमिकता

Question ID : 4410091644970
Option 1 ID : 4410096496416
Option 2 ID : 4410096496414
Option 3 ID : 4410096496417
Option 4 ID : 4410096496415

Q.6 सहपाठी अनुशिक्षण में, उपशिक्षक और उप शिक्षार्थी सामान्यतः _____ होते हैं।

- Ans
- 1. विद्यार्थी और विद्यालय प्रशासक
 - 2. एक ही कक्षा के शिक्षक और विद्यार्थी
 - 3. विभिन्न स्तरों की दक्षता वाले विद्यार्थी
 - 4. बिना किसी योजना के यादृच्छिक रूप से समूहीकृत शिक्षार्थी

Question ID : 4410091578825
Option 1 ID : 4410096236401
Option 2 ID : 4410096236399
Option 3 ID : 4410096236400
Option 4 ID : 4410096236402

Q.7 पियाजे के सिद्धांत के अनुसार, यह समझने के लिए कौन-सी अवस्था सबसे प्रासंगिक है कि बच्चे 'संख्या संरक्षण' (Number conservation) और क्रमीकरण (Ordering) जैसी मूलभूत गणितीय अवधारणाओं को कैसे समझना शुरू करते हैं?

- Ans
- 1. मूर्त-संक्रियात्मक अवस्था
 - 2. पूर्व-संक्रियात्मक अवस्था
 - 3. संवेदीप्रेरक अवस्था
 - 4. औपचारिक संक्रियात्मक अवस्था

Question ID : 4410091679049
Option 1 ID : 4410096624403
Option 2 ID : 4410096624402
Option 3 ID : 4410096624401
Option 4 ID : 4410096624404

Q.8 एक 5 वर्षीय बच्चा 5 शब्दों के वाक्य बना सकता है, सरल कहानियां सुना सकता है और 1,000 से अधिक शब्दों को समझ सकता है। प्रमुख विकास चरणों के अनुसार, इस उपलब्धि में किस सहायक कारक का सबसे अधिक योगदान रहा होगा?

- Ans
- 1. औपचारिक व्याकरण अभ्यास और रटने की विधि
 - 2. पढ़ने के लिए डिजिटल उपकरणों का विशिष्ट उपयोग
 - 3. अनुक्रियाशील बातचीत, खेल और पुस्तकों तक पहुंच
 - 4. उन्नत साहित्य पर समसमूह चर्चाएं

Question ID : 4410091606398

Option 1 ID : 4410096344609

Option 2 ID : 4410096344610

Option 3 ID : 4410096344608

Option 4 ID : 4410096344611

Q.9 निम्नलिखित में से कौन-सा कथन युवा शिक्षार्थियों में भाषा कौशल विकसित करने में साहित्य की भूमिका को सर्वोत्तम रूप से व्यक्त करता है?

- Ans
- 1. साहित्य व्याकरण के अभ्यास और स्मरण तक ही सीमित है, जिससे संदर्भगत या रचनात्मक भाषा अभ्यास के लिए बहुत कम अवसर प्राप्त होते हैं।
 - 2. साहित्य, पढ़ने, लिखने और अन्य आवश्यक भाषा कौशलों में अनुदेश को निर्देशित करने हेतु पूर्ण प्रतिस्थानिक के रूप में कार्य कर सकता है।
 - 3. साहित्य, समृद्ध शब्दावली, विविध संरचनाओं और सांस्कृतिक परिवेशों के लिए उद्घासन प्रदान करता है, जो बोध और समीक्षात्मक चिंतन कौशल को बढ़ावा देता है।
 - 4. साहित्य मुख्यतः मनोरंजन का एक स्रोत है और अर्थपूर्ण भाषा के विकास और वृद्धि में इसका योगदान बहुत कम है।

Question ID : 4410091542509

Option 1 ID : 4410096093121

Option 2 ID : 4410096093122

Option 3 ID : 4410096093119

Option 4 ID : 4410096093120

Q.10 सचेतन (mindfulness) की कौन-सी विशेषता, इसे विश्रांति अभ्यासों से विभेदित करती है?

- Ans
- 1. सचेतन का लक्ष्य विचारों से रहित अवस्था प्राप्त करना होता है।
 - 2. सचेतन अनन्य रूप से शारीरिक विश्रांति पर केंद्रित होता है।
 - 3. सचेतन में वर्तमान अनुभवों के साथ सक्रिय संलग्नता शामिल होता है।
 - 4. सचेतन स्वाभाविक रूप से धार्मिक और अनुष्ठानिक होता है।

Question ID : 4410091652941

Option 1 ID : 4410096527119

Option 2 ID : 4410096527121

Option 3 ID : 4410096527118

Option 4 ID : 4410096527120

Q.11 कक्षा परिवेश के बाहर, भाषा कौन-सा कार्य करती है?

- Ans
- 1. मुख्य रूप से अपनी भावनाओं को लिखने के एक तरीके के रूप में कार्य करती है।
 - 2. दूसरों को शामिल किए बिना खुद से बात करने के लिए केवल एक माध्यम के रूप में कार्य करती है।
 - 3. दैनिक जीवन में संचार, सामाजिक बातचीत और विचारों को साझा करने का कार्य करती है।
 - 4. लोगों के बीच बातचीत या समझ का समर्थन किए बिना सांस्कृतिक विरासत का संरक्षण करती है।

Question ID : 4410091651106
Option 1 ID : 4410096520536
Option 2 ID : 4410096520535
Option 3 ID : 4410096520534
Option 4 ID : 4410096520537

Q.12 निम्नलिखित में से किसे समाज का प्राथमिक और मूलभूत सामाजिक समूह माना जाता है?

- Ans
- 1. क्लब
 - 2. विद्यालय
 - 3. परिवार
 - 4. कार्यालय

Question ID : 4410091681703
Option 1 ID : 4410096634188
Option 2 ID : 4410096634187
Option 3 ID : 4410096634186
Option 4 ID : 4410096634189

Q.13 एक स्थानीय सरकार अपने समुदाय पर शिक्षा के दीर्घकालिक प्रभाव का मूल्यांकन कर रही है। समाजशास्त्रीय अंतर्दृष्टि का उपयोग करते हुए, कौन-सी मूल्यांकन पद्धति समाज पर शिक्षा के व्यापक प्रभावों को सर्वोत्तम रूप से दर्शाएगी?

- Ans
- 1. मानकीकृत शैक्षिक निष्पादन में अनुदैर्घ्य प्रवृत्तियां (longitudinal trends) का विश्लेषण
 - 2. विभिन्न पीढ़ियों में सामाजिक गतिशीलता और जीवन के अवसरों में परिवर्तन की जांच करना
 - 3. शिक्षकों की उपस्थिति और कार्यबल (workforce) की स्थिरता के पैटर्न की निगरानी
 - 4. विद्यालय सुविधाओं और अधिगम संसाधनों में सुधारों की समीक्षा

Question ID : 4410091630355
Option 1 ID : 4410096439570
Option 2 ID : 4410096439573
Option 3 ID : 4410096439571
Option 4 ID : 4410096439572

Q.14 एक बहुभाषी कक्षा में शिक्षक विज्ञान के विषय पर चर्चा करते समय विद्यार्थियों को उनकी मातृभाषा में व्यक्तिगत अनुभवों को साझा करने के लिए प्रोत्साहित करता है। इस परिदृश्य में शिक्षणशास्त्र की कौन-सी विशेषता सर्वोत्तम तरीके से प्रदर्शित होती है?

- Ans
- 1. शिक्षणशास्त्र मूल्य-आधारित है
 - 2. शिक्षणशास्त्र लक्ष्य-उन्मुख है
 - 3. शिक्षणशास्त्र चिंतनशील है
 - 4. शिक्षणशास्त्र संद भक्तिमक है

Question ID : 4410091683361
Option 1 ID : 4410096640370
Option 2 ID : 4410096640373
Option 3 ID : 4410096640371
Option 4 ID : 4410096640372

Q.15 एक शिक्षक देखता है कि एक संकोची विद्यार्थी औपचारिक कक्षा में प्रश्न पूछने के दौरान बार-बार आँख मिलाने से बच रहा है। अवलोकन सिद्धांतों को प्रयुक्त करते हुए, शिक्षक को सबसे पहले कौन-सी कार्रवाई करनी चाहिए?

- Ans
- 1. तत्काल मौखिक उत्तर देने के लिए प्रेरित करना
 - 2. तत्काल सामूहिक कार्य आरंभ करना
 - 3. गैर-मौखिक संचार संकेतों का विश्लेषण करना
 - 4. संकेतों को अंतर्निहित विशेष गुणों के रूप में व्याख्यायित करना

Question ID : 4410091549828
Option 1 ID : 4410096122003
Option 2 ID : 4410096122005
Option 3 ID : 4410096122004
Option 4 ID : 4410096122006

Q.16 बहुभाषीय कक्षा में भाषा के विकास में सहायता के लिए साहित्य का उपयोग किस प्रकार किया जा सकता है?

- Ans
- 1. पूरी तरह से केवल एकल सांस्कृतिक परंपरा से साहित्य का चयन करना।
 - 2. ऐसे पाठों का चयन करना जो विद्यार्थियों की विविध भाषाई पृष्ठभूमि को प्रतिबिंबित करते हों।
 - 3. सभी विद्यार्थियों के लिए केवल राष्ट्रीय भाषा में लिखे गए पाठों का ही उपयोग किया जाना।
 - 4. ऐसी कहानियों से बचना जिनमें कोड परिवर्तन या भाषा परिवर्तन का प्रयोग शामिल हो।

Question ID : 4410091641512
Option 1 ID : 4410096483161
Option 2 ID : 4410096483159
Option 3 ID : 4410096483160
Option 4 ID : 4410096483162

Q.17 आत्म-बोध की प्रक्रिया में जर्नल लेखन किस उद्देश्य को पूरा करता है?

- Ans
- 1. तथ्यों और आंकड़ों को याद रखना
 - 2. मनोरंजन के लिए सृजनात्मक कहानियां लिखना
 - 3. प्रतियोगिता परीक्षाओं की तैयारी करना
 - 4. व्यक्तिगत अनुभवों और विचारों पर अनुचितन करना

Question ID : 4410091636992
Option 1 ID : 4410096465801
Option 2 ID : 4410096465803
Option 3 ID : 4410096465804
Option 4 ID : 4410096465802

Q.18 सामाजिक अध्ययन पर आधारित एक काल्पनिक बहस में भाग लेने के बाद, विद्यार्थियों को अपने अनुभव को अकादमिक अवधारणाओं से जोड़ने तथा उन्हें एक नई सामुदायिक परियोजना में लागू करने के लिए प्रोत्साहित किया जाता है। कोल्ब (Kolb) के अनुभवात्मक अधिगम चक्र के किन चरणों को यह कृत्य सबसे स्पष्ट रूप से दर्शाता है?

- Ans
- 1. अमूर्त संकल्पना-निर्धारण और सक्रिय प्रयोग
 - 2. विमर्शपूर्ण प्रेक्षण और प्रत्यक्ष निर्देश
 - 3. स्मरण एवं निष्क्रिय नोट्स लेना
 - 4. मूर्त अनुभव और अंतिम आकलन

Question ID : 4410091606305
Option 1 ID : 4410096344244
Option 2 ID : 4410096344245
Option 3 ID : 4410096344246
Option 4 ID : 4410096344247

Q.19 एक विश्वविद्यालय निस्वार्थ कार्य (निष्काम कर्म) पर बल देते हुए एक अनिवार्य जीवन कौशल पाठ्यक्रम तैयार करता है। यह पाठ्यक्रम मुख्यतः किस पारंपरिक भारतीय आत्म-निर्देशन लक्ष्य को लागू कर रहा है?

- Ans
- 1. व्यक्तिपरक आंतरिक संघर्षों का निवारण करना
 - 2. सामूहिक सामुदायिक सामर्थ्य का एहसास करना
 - 3. जटिल पहचान संरचनाओं का विकास करना
 - 4. व्यक्तिगत आर्थिक सुरक्षा प्राप्त करना

Question ID : 4410091549903
Option 1 ID : 4410096122297
Option 2 ID : 4410096122296
Option 3 ID : 4410096122298
Option 4 ID : 4410096122295

Q.20 निम्न में से कौन-सा शब्द, शिक्षण अधिगम को प्रभावित करने वाले समूह के साझा किए गए विश्वास और मूल्यों का सर्वोत्तम वर्णन करता है?

- Ans
- 1. पाठ्यचर्या डिज़ाइन
 - 2. कक्षा-कक्ष प्रबंधन
 - 3. समकालीन अनुप्रतीक
 - 4. सांस्कृतिक विश्व दृष्टिकोण

Question ID : 4410091696643
Option 1 ID : 4410096692402
Option 2 ID : 4410096692404
Option 3 ID : 4410096692403
Option 4 ID : 4410096692401

Section : Discipline 3

Q.1 किसी विद्यार्थी द्वारा 5 + 3 को गलत तरीके से 9 के रूप में जोड़ देने के बाद, शिक्षक विद्यार्थी के तर्क पर चर्चा करते हैं और त्रुटि के अन्वेषण के लिए प्रेरित करते हैं। पियाजे के अनुसार, यह अभ्यास किस अधिगम युक्ति का समर्थन करता है?

- Ans
- 1. तत्काल सुधार के लिए प्रत्यक्ष निर्देश
 - 2. परिकल्पित-निगमनात्मक तर्क में महारत
 - 3. रटन स्मरण कार्यनीति को अपनाना
 - 4. आत्म-नियमन और अनुचितन के माध्यम से साम्यधारणा

Question ID : 4410091613386
Option 1 ID : 4410096372380
Option 2 ID : 4410096372379
Option 3 ID : 4410096372381
Option 4 ID : 4410096372378

Q.2 शिक्षा में निम्नलिखित में से कौन-सा विकल्प, आरंभिक वर्षों में आंतरिक अधिगम और अधिगम विधि के चयन की पूर्ण स्वतंत्रता पर जोर देता है?

- Ans
- 1. अनस्कूलिंग (Unschooling)
 - 2. मोंटेसरी (Montessori) पद्धति
 - 3. लोकतांत्रिक स्कूलिंग (Democratic schooling)
 - 4. वाल्डोर्फ (Waldorf) पद्धति

Question ID : 4410091546976
Option 1 ID : 4410096110777
Option 2 ID : 4410096110776
Option 3 ID : 4410096110774
Option 4 ID : 4410096110775

Q.3 नीचे दिए गए अभिकथन (A) और कारण (R) को पढ़िए तथा उनके आधार पर सही विकल्प का चयन कीजिए।

अभिकथन (A): छोटे विद्यार्थियों में अंकगणितीय कौशल विकसित करने के लिए उन्हें स्थानीय मान का ज्ञान होना आवश्यक है।

कारण (R): स्थानीय मान, विद्यार्थियों को जोड़ के प्रश्नों को हल करते समय दहाई और इकाई में अंतर करने में सहायक होता है।

- Ans
- 1. A और R दोनों गलत हैं।
 - 2. A सही है, लेकिन R गलत है।
 - 3. A और R दोनों सही हैं, लेकिन R, A की सही व्याख्या नहीं है।
 - 4. A और R दोनों सही हैं, तथा R, A की सही व्याख्या है।

Question ID : 4410091609309

Option 1 ID : 4410096356163

Option 2 ID : 4410096356162

Option 3 ID : 4410096356161

Option 4 ID : 4410096356160

Q.4 शिक्षा के क्षेत्र में एक अच्छे प्रशिक्षक (facilitator) के लिए निम्नलिखित में से कौन-सी एक आवश्यक मनोवैज्ञानिक अभिवृत्ति है?

- Ans
- 1. सख्त होना (Being strict)
 - 2. उदासीन होना (Being indifferent)
 - 3. खुले विचारों वाला होना (Being open-minded)
 - 4. अधीर होना (Being impatient)

Question ID : 4410091619501

Option 1 ID : 4410096396860

Option 2 ID : 4410096396862

Option 3 ID : 4410096396861

Option 4 ID : 4410096396863

Q.5 एक चिंतनशील सत्र में, श्री सिंह ने देखा कि कुछ विद्यार्थी बहस के दौरान अपनी राय व्यक्त करने में संकोच करते हैं। वह अपने शिक्षण में कहानी कहने और खोजपूर्ण पूछताछ को अपनाने का निर्णय लेते हैं। श्री सिंह मुख्य रूप से संलग्नता (engagement) को बढ़ावा देने के लिए किस सुविधा कौशल का उपयोग कर रहे हैं?

- Ans
- 1. सख्त कक्षा प्रबंधन और अनुशासन
 - 2. दोहराए जाने वाले कार्यपत्रक कार्यों को सौंपना
 - 3. सक्रिय श्रवण और अन्वेषणात्मक पूछताछ
 - 4. रटकर याद करने की तकनीकों पर बल

Question ID : 4410091616529

Option 1 ID : 4410096385031

Option 2 ID : 4410096385033

Option 3 ID : 4410096385030

Option 4 ID : 4410096385032

Q.6 किस अवस्था में बोधी डेटा के बिना केवल प्रतीकों का उपयोग करके तर्क करने की क्षमता शामिल होती है?

- Ans 1. औपचारिक संक्रियात्मक (Formal Operational)
 2. संवेदीप्रेरक (Sensorimotor)
 3. मूर्त संक्रियात्मक (Concrete Operational)
 4. पूर्वसंक्रियात्मक (Preoperational)

Question ID : 4410091655169
 Option 1 ID : 4410096535644
 Option 2 ID : 4410096535641
 Option 3 ID : 4410096535643
 Option 4 ID : 4410096535642

Q.7 एक विद्यार्थी परीक्षा में असफल हो जाता है और दावा करता है कि परीक्षा अनुचित थी तथा अपनी तैयारी की कमी को स्वीकार करने से मना करता है। यह किस रक्षायुक्ति का सचित्र है?

- Ans 1. उदात्तीकरण (Sublimation)
 2. प्रत्याख्यान (Denial)
 3. प्रक्षेपण (Projection)
 4. युक्तीकरण (Rationalization)

Question ID : 4410091696847
 Option 1 ID : 4410096693195
 Option 2 ID : 4410096693192
 Option 3 ID : 4410096693194
 Option 4 ID : 4410096693193

Q.8 Which sentence correctly follows the rules of subject-verb agreement?

- Ans 1. They walks to college every morning.
 2. Students walks to college every morning.
 3. He go to college every morning.
 4. She walks to college every morning.

Question ID : 4410091638801
 Option 1 ID : 4410096472780
 Option 2 ID : 4410096472783
 Option 3 ID : 4410096472782
 Option 4 ID : 4410096472781

Q.9 जब शिक्षार्थी किसी विषय के प्रति जिज्ञासा प्रदर्शित करते हैं, तो वे अधिक सक्रिय रूप से संलग्न होते हैं और गहरी समझ प्राप्त करते हैं। यह _____ के महत्व को दर्शाता है।

- Ans
- 1. कक्षा के नियमों को लागू करने
 - 2. दंडात्मक उपायों का प्रयोग करने
 - 3. शिक्षार्थियों की रुचि को प्रोत्साहित करने
 - 4. व्यवहारिक अनुशासन बनाए रखने

Question ID : 4410091546993
Option 1 ID : 4410096110845
Option 2 ID : 4410096110844
Option 3 ID : 4410096110843
Option 4 ID : 4410096110842

Q.10 Which factor best supports the status of English as a global language?

- Ans
- 1. Its complex grammar and extensive vocabulary.
 - 2. Its wide use in global trade and technology.
 - 3. Its use is limited to native English nations.
 - 4. Its ancient origin in early European history.

Question ID : 4410091633795
Option 1 ID : 4410096453271
Option 2 ID : 4410096453270
Option 3 ID : 4410096453273
Option 4 ID : 4410096453272

Q.11 शैक्षिक विमर्श में, 'स्कूलिंग (schooling)' की पारंपरिक अवधारणा को मूलतः _____ के रूप में परिभाषित किया जाता है।

- Ans
- 1. अनियंत्रित खुला मंच
 - 2. सामुदायिक संसाधन केंद्र
 - 3. संरचित अधिगम प्रक्रिया
 - 4. सामाजिक परिवेश

Question ID : 4410091550780
Option 1 ID : 4410096125405
Option 2 ID : 4410096125406
Option 3 ID : 4410096125404
Option 4 ID : 4410096125403

Q.12 Which sentence is grammatically correct and contextually appropriate for a business email?

- Ans
- 1. I want discuss project details with you tomorrow.
 - 2. I wants to discuss the project details with you tomorrow.
 - 3. I would like to discuss the project details with you tomorrow.
 - 4. I like discussing the project details with you tomorrow.

Question ID : 4410091641751
Option 1 ID : 4410096484082
Option 2 ID : 4410096484083
Option 3 ID : 4410096484081
Option 4 ID : 4410096484084

Q.13 एक सह-शैक्षिक विद्यालय में, एक पुरुष शिक्षक, निजी तौर पर छात्राओं के साथ उपस्थिति संबंधी मुद्दों पर चर्चा करने में असहज महसूस करता है, जिसके परिणामस्वरूप उन्हें कम सहयोग मिलता है। शिक्षक की पहचान का कौन-सा पहलू इस कक्षा की गतिशीलता को प्रभावित कर रहा है?

- Ans
- 1. व्यक्तिगत जेंडर पहचान, अंतःक्रियाओं को आकार देती है
 - 2. विद्यार्थियों पर सहपाठियों का प्रभाव
 - 3. कक्षा के नियमों का सख्ती से अनुपालन
 - 4. पाठ्यपुस्तकों द्वारा प्रदान की गई पाठ्यचर्या विषय-वस्तु

Question ID : 4410091607608
Option 1 ID : 4410096349392
Option 2 ID : 4410096349395
Option 3 ID : 4410096349393
Option 4 ID : 4410096349394

Q.14 विद्यार्थियों के मिले-जुले परिणामों वाले एक चुनौतीपूर्ण सत्र के बाद, मिस्टर सिंह अपने शिक्षण विधियों का विश्लेषण करने और अपनी शिक्षण पद्धति में सुधार हेतु विद्यार्थियों से फीडबैक लेने के लिए समय निकालते हैं। शिक्षक के रूप में उनकी पहचान का कौन-सा पहलू सर्वाधिक प्रदर्शित हो रहा है?

- Ans
- 1. लोकतांत्रिक और सहयोगात्मक (Democratic and collaborative)
 - 2. चिन्तनशील अभ्यासकर्ता (Reflective practitioner)
 - 3. परिवर्तन का अभिकर्ता (Agent of change)
 - 4. शिक्षार्थी-केंद्रित और समावेशी (Learner-centred and inclusive)

Question ID : 4410091607562
Option 1 ID : 4410096349216
Option 2 ID : 4410096349217
Option 3 ID : 4410096349218
Option 4 ID : 4410096349219

Q.15 शैक्षिक नेतृत्वकर्ता के रूप में प्रधानाचार्यों की महत्वपूर्ण भूमिका क्या है?

- Ans
- 1. राष्ट्रीय पाठ्यचर्या को स्वतंत्र रूप से डिजाइन करना या निर्धारित करना
 - 2. केवल प्रशासनिक ड्यूटी पर ध्यान केंद्रित करना
 - 3. शिक्षकों को व्यावसायिक जिम्मेदारी और सहायक निर्णयों के साथ सशक्त बनाना
 - 4. कक्षा के सभी अनुदेशों का प्रत्यक्ष प्रबंधन और नियंत्रण करना

Question ID : 4410091608321
Option 1 ID : 4410096352203
Option 2 ID : 4410096352202
Option 3 ID : 4410096352200
Option 4 ID : 4410096352201

Q.16 Which option is an example of using correct grammar but inappropriate language in a classroom setting?

- Ans
- 1. Would you mind repeating that?
 - 2. Dude, could you explain that again?
 - 3. Could you please explain that again?
 - 4. May I ask for clarification?

Question ID : 4410091621191
Option 1 ID : 4410096403571
Option 2 ID : 4410096403572
Option 3 ID : 4410096403570
Option 4 ID : 4410096403569

Q.17 'विद्यालय की प्रभावशीलता (school effectiveness)' मुख्यतः किसको संदर्भित करती है?

- Ans
- 1. भौतिक अवसंरचना (Physical infrastructure)
 - 2. विद्यार्थी नामांकन (Student enrollment)
 - 3. लक्ष्य उपलब्धि (Goal achievement)
 - 4. शिक्षक वेतन (Teacher salary)

Question ID : 4410091631445
Option 1 ID : 4410096443997
Option 2 ID : 4410096443998
Option 3 ID : 4410096443996
Option 4 ID : 4410096443999

Q.18 निम्नलिखित में से कौन-सा विकल्प व्यक्तियों की अधिगम में भिन्नता को सर्वोत्तम रूप से स्पष्ट करता है?

- Ans
- 1. अधिगम व्यक्तिगत और पर्यावरणीय दोनों कारकों से प्रभावित होता है।
 - 2. अधिगम में अंतर केवल शिक्षण विधियों के कारण होता है।
 - 3. अधिगम संपूर्णतया पाठ्यचर्या द्वारा निर्धारित होता है।
 - 4. अधिगम पूरी तरह से शिक्षार्थी की बुद्धि पर निर्भर करता है।

Question ID : 4410091576783
Option 1 ID : 4410096227986
Option 2 ID : 4410096227985
Option 3 ID : 4410096227984
Option 4 ID : 4410096227983

Q.19 विद्यालय में शिक्षक का प्राथमिक उत्तरदायित्व क्या होता है?

- Ans
- 1. अधिगम को सुगम बनाना
 - 2. विद्यालय के वित्त का प्रबंधन करना
 - 3. भवन लेआउट डिजाइन करना
 - 4. पाठ्यपुस्तकों को प्रकाशित करना

Question ID : 4410091630235
Option 1 ID : 4410096439090
Option 2 ID : 4410096439091
Option 3 ID : 4410096439092
Option 4 ID : 4410096439093

Q.20 पांच से छह वर्ष की आयु के बच्चों के बीच सक्रिय अंतःक्रिया और सुनियोजित क्रियाकलापों द्वारा किस प्रकार का खेल अभिलक्षित होता है?

- Ans
- 1. समांतर खेल (Parallel play)
 - 2. सहकारी खेल (Associative play)
 - 3. सहकारी खेल (Cooperative play)
 - 4. दर्शक खेल (Onlooker play)

Question ID : 4410091655713
Option 1 ID : 4410096537816
Option 2 ID : 4410096537818
Option 3 ID : 4410096537819
Option 4 ID : 4410096537817

Section : Discipline 4

Q.1 सामाजिक न्याय मुख्यतः किससे संबंधित है?

- Ans
- 1. दंड के एकसमान अनुप्रयोग से
 - 2. निष्पक्ष अवसर उपलब्ध कराने से
 - 3. दंड विधि को सख्ती से लागू करने से
 - 4. सभी सामाजिक संघर्षों के उन्मूलन से

Question ID : 4410091584489
Option 1 ID : 4410096259192
Option 2 ID : 4410096259193
Option 3 ID : 4410096259191
Option 4 ID : 4410096259194

Q.2 विचारों को संबद्ध रूप से व्यवस्थित करने और उन्हें लिखित रूप में व्यक्त करने की शिक्षार्थी की क्षमता का मूल्यांकन करने के लिए किस प्रकार का भाषा आकलन सबसे उपयुक्त है?

- Ans
- 1. श्रवण आकलन
 - 2. मौखिक आकलन
 - 3. लेखन आकलन
 - 4. पठन आकलन

Question ID : 4410091636115
Option 1 ID : 4410096462424
Option 2 ID : 4410096462422
Option 3 ID : 4410096462421
Option 4 ID : 4410096462423

Q.3 निम्नलिखित में से कौन-सा, स्थिति और पर्यवेक्षण किए जा रहे कर्मचारी के प्रकार के आधार पर विभिन्न नेतृत्व शैलियों का उपयोग करता है?

- Ans
- 1. एक नेतृत्व उपागम जो मुख्य रूप से संबंध-निर्माण और मनोबल पर केंद्रित होता है।
 - 2. एक नेतृत्व उपागम जो दीर्घकालिक संगठनात्मक संस्कृति को प्राथमिकता देता है।
 - 3. एक नेतृत्व उपागम जो संदर्भ और अनुयायी की क्षमता के अनुसार व्यवहार को संशोधित करता है।
 - 4. एक नेतृत्व उपागम जो कर्मचारियों की व्यक्तिगत आवश्यकताओं को पहले पूरा करने पर केंद्रित होता है।

Question ID : 4410091548093

Option 1 ID : 4410096115080

Option 2 ID : 4410096115078

Option 3 ID : 4410096115077

Option 4 ID : 4410096115079

Q.4 कैरोल कॉलेज का शिक्षा के प्रति दृष्टिकोण अनेक उपागमों को शामिल करने पर बल देता है। मिशन-केंद्रित मूल्यों और रणनीतिक योजना के आधार पर, यह किस परिणाम का समर्थन करता है?

- Ans
- 1. सहयोग की तुलना में प्रतिस्पर्धा पर ध्यान केन्द्रित
 - 2. बाहरी विचारों के लिए बंद परिवेश
 - 3. तदनुभूति और प्रामाणिक संवाद की संस्कृति
 - 4. विश्वास और तर्क का पृथक्करण

Question ID : 4410091605071

Option 1 ID : 4410096339452

Option 2 ID : 4410096339451

Option 3 ID : 4410096339450

Option 4 ID : 4410096339453

Q.5 एक शहर स्थानीय संस्कृति, सामुदायिक आवश्यकताओं और प्राकृतिक संसाधनों को एकीकृत करते हुए एक नया पार्क विकसित करने की योजना बनाता है। यह पर्यावरणीय अध्ययन के किस उपागम को सर्वोत्तम रूप से दर्शाता है?

- Ans
- 1. पूर्णतावादी उपागम
 - 2. उद्देश्यवादी उपागम
 - 3. प्रणाली उपागम
 - 4. पर्यावरणीय निर्धारणात्मक उपागम

Question ID : 4410091604700

Option 1 ID : 4410096337964

Option 2 ID : 4410096337966

Option 3 ID : 4410096337967

Option 4 ID : 4410096337965

Q.6 पाठ के दौरान विद्यार्थियों को स्पष्ट और सटीक निर्देश देने के संदर्भ में कौन-सा सूक्ष्म-शिक्षण कौशल प्रत्यक्ष रूप से संबंधित है?

- Ans
- 1. पुनर्बलन कौशल
 - 2. प्रश्न कौशल
 - 3. उद्दीपन परिवर्तन कौशल
 - 4. व्याख्या कौशल

Question ID : 4410091646613
Option 1 ID : 4410096502695
Option 2 ID : 4410096502693
Option 3 ID : 4410096502696
Option 4 ID : 4410096502694

Q.7 शिक्षणशास्त्र के संदर्भ में पर्यावरण अध्ययन का प्राथमिक महत्व क्या है?

- Ans
- 1. यह पूर्ण रूप से प्रकृति से संबंधित ऐतिहासिक तथ्यों पर केंद्रित है।
 - 2. यह पर्यावरण जागरूकता और उत्तरदायित्व का निर्माण करता है।
 - 3. यह केवल प्रयोगशाला विश्लेषण के लिए तकनीकी कौशल प्रदान करता है।
 - 4. यह औद्योगीकरण के माध्यम से आर्थिक विकास को बढ़ावा देता है।

Question ID : 4410091611678
Option 1 ID : 4410096365570
Option 2 ID : 4410096365568
Option 3 ID : 4410096365567
Option 4 ID : 4410096365569

Q.8 एक शिक्षक विद्यार्थियों को रिपोर्ट का संपादन करने और अंतिम संस्करण जमा करने का निर्देश देता है और 90% अंक व्याकरण संबंधी त्रुटियों और वर्तनी की शुद्धता के आधार पर प्रदान करता है। यह आकलन दर्शन मुख्यतः लेखन को _____ के रूप में देखने के अनुरूप है।

- Ans
- 1. प्रोक्ति निर्माण कार्य
 - 2. समग्र संचार उद्देश्य
 - 3. महत्वपूर्ण संज्ञानात्मक प्रक्रिया
 - 4. यांत्रिक कौशल और उत्पाद

Question ID : 4410091550996
Option 1 ID : 4410096126242
Option 2 ID : 4410096126239
Option 3 ID : 4410096126241
Option 4 ID : 4410096126240

Q.9 पाठ योजना मुख्यतः शिक्षण की किस प्रावस्था के दौरान निष्पादित की जाती है?

- Ans
- 1. अन्योन्य क्रियात्मक प्रावस्था (Interactive phase)
 - 2. मूल्यांकन प्रावस्था (Evaluative phase)
 - 3. सक्रियोत्तर प्रावस्था (Post-active phase)
 - 4. प्राक्-सक्रिय प्रावस्था (Pre-active phase)

Question ID : 4410091551035
Option 1 ID : 4410096126383
Option 2 ID : 4410096126386
Option 3 ID : 4410096126384
Option 4 ID : 4410096126385

Q.10 सामाजिक विज्ञान और सामाजिक अध्ययन किस प्रकार संबंधित हैं?

- Ans
- 1. सामाजिक विज्ञान केवल प्राथमिक विद्यालय स्तर पर पढ़ाया जाता है।
 - 2. सामाजिक अध्ययन और सामाजिक विज्ञान असंबद्ध विषय हैं।
 - 3. विद्यालयी पाठ्यचर्या के लिए सामाजिक अध्ययन की उत्पत्ति सामाजिक विज्ञान से हुई है।
 - 4. विश्वविद्यालयों में सामाजिक विज्ञान, सामाजिक अध्ययन का एक उपसमुच्चय है।

Question ID : 4410091634004
Option 1 ID : 4410096454113
Option 2 ID : 4410096454112
Option 3 ID : 4410096454110
Option 4 ID : 4410096454111

Q.11 विद्यालयी पाठ्यचर्या में अंग्रेजी को मुख्य रूप से इसलिए स्थान दिया गया है क्योंकि यह _____।

- Ans
- 1. विद्यालयीकरण में अन्य सभी भाषाओं को प्रतिस्थापित करती है
 - 2. केवल एक परीक्षा विषय के रूप में कार्य करती है
 - 3. सांस्कृतिक रूप से तटस्थ और संदर्भ-मुक्त है
 - 4. एक संपर्क भाषा के रूप में कार्य करती है

Question ID : 4410091583230
Option 1 ID : 4410096254267
Option 2 ID : 4410096254264
Option 3 ID : 4410096254265
Option 4 ID : 4410096254266

Q.12 एक शिक्षक ब्लूम के वर्गीकरण (Bloom's Taxonomy) को सम्मिलित करते हुए एक पाठ-योजना तैयार कर रहा है, जो उच्च-स्तरीय चिंतन को बढ़ावा देती है और लचीलेपन के सिद्धांत के अनुरूप है। अनुदेशनात्मक वितरण में अनुकूलनशीलता सुनिश्चित करने के लिए कौन-सा कदम महत्वपूर्ण है?

- Ans
- 1. एक कठोर निर्देशात्मक अनुक्रम का अनुसरण करना
 - 2. विविध आवश्यकताओं के लिए वैकल्पिक रणनीतियाँ प्रदान करना
 - 3. केवल एक मूल्यांकन पद्धति पर निर्भर रहना
 - 4. सभी शिक्षार्थियों के लिए निश्चित लक्ष्य निर्धारित करना

Question ID : 4410091611768
Option 1 ID : 4410096365914
Option 2 ID : 4410096365913
Option 3 ID : 4410096365912
Option 4 ID : 4410096365911

Q.13 एक प्रधानाचार्य शिक्षकों के बीच अविरत व्यावसायिक विकास को संवर्धित करना चाहता है। इस संदर्भ में कौन-सी कार्यवाही एक शैक्षणिक संचालक की भूमिका को सबसे प्रभावी ढंग से प्रदर्शित करती है?

- Ans
- 1. सविमर्श परिचर्चाओं के साथ सहपाठी अवलोकन सत्रों का आयोजन
 - 2. पृथक कार्यशालाओं के संचालन के लिए बाह्य प्रशिक्षकों की नियुक्ति
 - 3. केवल प्रशासनिक कौशल के व्यावसायिक विकास पर ध्यान केंद्रण
 - 4. स्टाफ रूम के लिए व्यावसायिक विकास सामग्री का क्रयण

Question ID : 4410091681777
Option 1 ID : 4410096634483
Option 2 ID : 4410096634484
Option 3 ID : 4410096634485
Option 4 ID : 4410096634482

Q.14 अंग्रेजी शिक्षण में व्याकरण अनुवाद प्रणाली का मुख्य उद्देश्य क्या है?

- Ans
- 1. शब्दावली और व्याकरण सिखाने के लिए खेलों और अंतःक्रियात्मक क्रियाकलापों का उपयोग करना
 - 2. विद्यार्थियों को दैनिक जीवन की स्थितियों में धाराप्रवाह अंग्रेजी बोलने के लिए प्रोत्साहित करना
 - 3. देशीय भाषा का उपयोग करके वाक्यों का अनुवाद करना और व्याकरण के नियमों को सीखना
 - 4. सुनने और पढ़ने के अभ्यास के लिए मल्टीमीडिया उपकरणों को प्रभावी तरीके से एकीकृत करना

Question ID : 4410091547983
Option 1 ID : 4410096114645
Option 2 ID : 4410096114643
Option 3 ID : 4410096114644
Option 4 ID : 4410096114646

Q.15 विद्यालय यह सुनिश्चित करता है कि प्रत्येक बच्चे को उसकी पृष्ठभूमि की उपेक्षा करते हुए समान अधिगम के अवसर प्राप्त हों। यह पद्धति _____ को बढ़ावा देती है।

- Ans
- 1. कक्षा में प्रतिस्पर्धा
 - 2. उच्च उपलब्धि प्राप्त करने वालों को वरीयता देने
 - 3. समानता और न्याय के मूल्यों
 - 4. सामाजिक पृष्ठभूमि के आधार पर समूह बनाने

Question ID : 4410091570139
Option 1 ID : 4410096201557
Option 2 ID : 4410096201559
Option 3 ID : 4410096201558
Option 4 ID : 4410096201560

Q.16 निम्नलिखित में से कौन-सा, स्नातकोत्तर पाठ्यचर्या में अंग्रेजी भाषा शिक्षण को एकीकृत करने से संबंधित प्रमुख सिद्धांत की सटीक व्याख्या करता है?

- Ans
- 1. यह शब्दावली सूचियों को रटकर याद रखने पर जोर देता है।
 - 2. यह कार्यात्मक भाषा के उपयोग की तुलना में साहित्य के अवबोध को प्राथमिकता देता है।
 - 3. यह उन्नत विद्यार्थियों के लिए मुख्यतः व्याकरण के विकास पर केंद्रित होता है।
 - 4. यह विभिन्न विषयों में अकादमिक प्रोक्ति और समालोचनात्मक चिंतन को बढ़ावा देता है।

Question ID : 4410091611693
Option 1 ID : 4410096365630
Option 2 ID : 4410096365629
Option 3 ID : 4410096365628
Option 4 ID : 4410096365627

Q.17 विद्यालय के पाठ्यक्रम से विज्ञान और सामाजिक विज्ञान के अलग-अलग खंडों को हटा दिया जाता है और दैनिक जीवन से "जल" और "ईंधन" जैसे थीम (themes) के तहत पाठ आयोजित किया जाता है। यह मुख्य रूप से _____ पर केंद्रित होता है।

- Ans
- 1. कक्षा के पीरियड बढ़ाने
 - 2. अलग-अलग विषयों के तथ्यों को सूचीबद्ध करने
 - 3. अधिक परीक्षा प्रश्न लिखने
 - 4. समग्र विषयवस्तु एकीकरण

Question ID : 4410091558802
Option 1 ID : 4410096157596
Option 2 ID : 4410096157593
Option 3 ID : 4410096157595
Option 4 ID : 4410096157594

Q.18 पर्यावरण अध्ययन में कौन-सा शिक्षण उपागम समग्र समझ प्रदान करने के लिए विभिन्न विषयों को जोड़ने पर बल देता है?

- Ans
- 1. संकल्पनात्मक प्रक्रिया उपागम
 - 2. एकीकृत उपागम
 - 3. समावेशी उपागम
 - 4. वैज्ञानिक उपागम

Question ID : 4410091611695
Option 1 ID : 4410096365632
Option 2 ID : 4410096365633
Option 3 ID : 4410096365634
Option 4 ID : 4410096365631

Q.19 रिवरडेल (Riverdale) स्कूल में प्रशासन विद्यार्थियों के परीक्षा अंकों से परे स्कूल की प्रभावशीलता को मापना चाहता है। इस संदर्भ में वर्णित व्यापक मापन को कौन-सा उपागम सर्वोत्तम रूप से दर्शाता है?

- Ans
- 1. पोर्टफोलियो, सहपाठी प्रतिपुष्टि और मूल्य-वर्धित मॉडल का उपयोग करना।
 - 2. प्रत्येक वर्ष योगात्मक परीक्षणों की संख्या बढ़ाना।
 - 3. केवल वार्षिक बोर्ड परीक्षा के परिणामों पर ध्यान केंद्रित करना।
 - 4. परीक्षा के अंकों के आधार पर विद्यार्थियों की सार्वजनिक रूप से रैंकिंग करना।

Question ID : 4410091616584
Option 1 ID : 4410096385247
Option 2 ID : 4410096385246
Option 3 ID : 4410096385249
Option 4 ID : 4410096385248

Q.20 पाठ योजना के सिद्धांतों के अनुसार प्रभावी पाठ योजना का पहला कदम कौन-सा है?

- Ans
- 1. स्पष्ट उद्देश्य निर्धारित करना
 - 2. शिक्षण सहायक सामग्री का चयन करना
 - 3. विद्यार्थी गतिविधियों को तैयार करना
 - 4. आकलन विधियों का निर्णय लेना

Question ID : 4410091681879
Option 1 ID : 4410096634886
Option 2 ID : 4410096634887
Option 3 ID : 4410096634889
Option 4 ID : 4410096634888

Q.1 एक विद्या-शाखा के रूप में गणित की प्रकृति शिक्षा में इसके कथित महत्व को किस प्रकार प्रभावित करती है?

- Ans
- 1. गणित मुख्य रूप से सर्जनात्मक चिंतन के बजाय रटने और प्रक्रियात्मक स्मरण पर बल देता है।
 - 2. गणित विश्लेषणात्मक तर्क और व्यवस्थित समस्या-समाधान को बढ़ावा देता है।
 - 3. गणित सहयोगात्मक अधिगम की तुलना में व्यक्तिगत ड्रिल अभ्यास को अधिक महत्व देता है।
 - 4. गणित मुख्य रूप से कालानुक्रमिक तथ्यों और वर्णनात्मक आख्यानों से संबंधित है।

Question ID : 4410091641195
Option 1 ID : 4410096481934
Option 2 ID : 4410096481933
Option 3 ID : 4410096481935
Option 4 ID : 4410096481936

Q.2 विद्यार्थी जल संरक्षण पर पोस्टर बनाते हैं और वृक्षारोपण अभियान चलाते हैं। यह गतिविधि _____ से संबंधित है?

- Ans
- 1. वाद-विवाद एलिमिनेशन राउंड्स
 - 2. विज्ञान और इको-क्लब गतिविधियों
 - 3. खेल प्रतियोगिताओं
 - 4. सभा की दिनचर्या

Question ID : 4410091570285
Option 1 ID : 4410096202132
Option 2 ID : 4410096202130
Option 3 ID : 4410096202129
Option 4 ID : 4410096202131

Q.3 शैक्षिक संस्थानों में प्रभावी श्रवण किस परिणाम में सबसे प्रत्यक्ष योगदान देता है?

- Ans
- 1. मौखिक और गैर-मौखिक संदेशों की परिशुद्ध व्याख्या
 - 2. श्रोता पर वक्ता के अधिकार में वृद्धि
 - 3. शिक्षकों द्वारा शिक्षण सामग्री का त्वरित वितरण
 - 4. लिखित संचार सामग्री पर निर्भरता में कमी

Question ID : 4410091603115
Option 1 ID : 4410096331657
Option 2 ID : 4410096331659
Option 3 ID : 4410096331656
Option 4 ID : 4410096331658

Q.4 भारतीय कक्षाओं में असमानता और विविधता को दूर करने के लिए एक प्रमुख रणनीति क्या है?

- Ans
- 1. सभी विद्यार्थियों के लिए एकल शिक्षण विधि का उपयोग करना
 - 2. विभेदीकृत अनुदेशन को लागू करना
 - 3. विद्यार्थियों को विविधता के आधार पर अलग-अलग कक्षाओं में बैठाना
 - 4. पाठों में सांस्कृतिक पृष्ठभूमि की उपेक्षा करना

Question ID : 4410091618660
Option 1 ID : 4410096393513
Option 2 ID : 4410096393512
Option 3 ID : 4410096393514
Option 4 ID : 4410096393511

Q.5 निम्नलिखित में से कौन-सा विकल्प मनोविनोदात्मक गणित का एक उदाहरण है?

- Ans
- 1. इतिहास की पुस्तक पढ़ना
 - 2. गुणन सारणी (multiplication tables) को स्मरण करना
 - 3. लिखने का अभ्यास करना
 - 4. सुडोकू (Sudoku) जैसी पहेलियों को हल करना

Question ID : 4410091624165
Option 1 ID : 4410096415233
Option 2 ID : 4410096415231
Option 3 ID : 4410096415234
Option 4 ID : 4410096415232

Q.6 कौन-सा उपागम विद्यालयों में जेंडर समानता की दिशा में कार्य हेतु सर्वोत्तम रूप में समर्थन प्रदान करता है?

- Ans
- 1. विशेष रूप से केवल एकल-जेंडर कक्षाओं को बढ़ावा देना
 - 2. जेंडर-संवेदनशील नीतियों और प्रथाओं को लागू करना
 - 3. कक्षा में जेंडर भेदों की अनदेखी करना
 - 4. जेंडर भूमिकाओं के आधार पर कार्य सौंपना

Question ID : 4410091639004
Option 1 ID : 4410096473584
Option 2 ID : 4410096473581
Option 3 ID : 4410096473582
Option 4 ID : 4410096473583

Q.7 एक शिक्षक समूह गतिविधियों का उपयोग करता है, जिसमें विभिन्न पृष्ठभूमियों के बच्चे एक साथ काम करते हैं। इससे _____ में सहायता मिलती है।

- Ans
- 1. बाधाएं उत्पन्न करने
 - 2. विविधता से बचने
 - 3. कक्षाओं में असमानता को दूर करने
 - 4. प्रतिस्पर्धा बढ़ाने

Question ID : 4410091570309
Option 1 ID : 4410096202221
Option 2 ID : 4410096202222
Option 3 ID : 4410096202224
Option 4 ID : 4410096202223

Q.8 मनोविनोदात्मक गणित में पैटर्न बनाने के लिए सामान्यतः किस साधन (tool) का उपयोग किया जाता है?

- Ans
- 1. प्रोट्रेक्टर (Protractor)
 - 2. कैलकुलेटर (Calculator)
 - 3. अबेकस (Abacus)
 - 4. टेंग्राम (Tangram)

Question ID : 4410091637833
Option 1 ID : 4410096468896
Option 2 ID : 4410096468897
Option 3 ID : 4410096468895
Option 4 ID : 4410096468894

Q.9 एक स्कूल पढ़ने और लिखने में कठिनाई वाले विद्यार्थियों के लिए प्रारंभिक जांच और उपचारात्मक कक्षाएं शुरू करता है। कौन-सा शैक्षिक नीति ढांचा प्रत्यक्ष रूप से इस उपागम को प्रोत्साहित करता है?

- Ans
- 1. NIMHANS/DALI
 - 2. NCF 2005/RT E
 - 3. RPWD अधिनियम 2016
 - 4. IEP

Question ID : 4410091619218
Option 1 ID : 4410096395742
Option 2 ID : 4410096395741
Option 3 ID : 4410096395740
Option 4 ID : 4410096395743

Q.10 भाषा कौशल का आकलन करने के दौरान, अवलोकन, मौखिक परीक्षण और लिखित कार्य (assignments) के संयोजन की अनुशंसा क्यों की जाती है?

- Ans
- 1. यह सुनिश्चित करता है कि केवल उन्नत व्याकरण का परीक्षण हो।
 - 2. यह कई दक्षताओं का मूल्यांकन करता है।
 - 3. यह पूर्ण रूप से हस्तलेखन अभ्यास पर केंद्रित है।
 - 4. यह आकलन को तथ्यात्मक स्मरण तक सीमित रखता है।

Question ID : 4410091641193
Option 1 ID : 4410096481926
Option 2 ID : 4410096481925
Option 3 ID : 4410096481927
Option 4 ID : 4410096481928

Q.11 निम्नलिखित में से कौन-सा, गणित की प्रकृति की सटीक व्याख्या करता है?

- Ans 1. यह मूर्त अनुभवों से अमूर्त अवधारणाओं तक विकसित होती है।
2. इसका दैनिक जीवन की गतिविधियों से कोई संबंध नहीं होता है और इसका उपयोग केवल कक्षा में ही किया जाता है।
3. यह केवल संख्यात्मक गणनाओं और अभिधारणाओं तक सीमित होती है।
4. यह केवल सैद्धांतिक प्रमाणों से संबंधित होती है जिनका कोई व्यावहारिक निहितार्थ नहीं होता है।

Question ID : 4410091581889
Option 1 ID : 4410096248796
Option 2 ID : 4410096248794
Option 3 ID : 4410096248793
Option 4 ID : 4410096248795

Q.12 A teacher consciously eliminates gendered derogatory remarks and avoids sex-role behavior cues in classroom interaction. Which primary mechanism of gender construction is being challenged?

- Ans 1. Gender socialization
2. Sex-role rigidity
3. Biological determination
4. Productive labor division

Question ID : 4410091551669
Option 1 ID : 4410096129313
Option 2 ID : 4410096129311
Option 3 ID : 4410096129312
Option 4 ID : 4410096129314

Q.13 निम्नलिखित में से कौन-सा कथन, विज्ञान शिक्षा में पढ़ाए जाने वाले विज्ञान की प्रकृति की एक प्रमुख अवधारणा को दर्शाता है?

- Ans 1. विज्ञान शिक्षा नई खोजों पर चर्चा करने से बचती है।
2. वैज्ञानिक ज्ञान नए साक्ष्यों के साथ परिवर्तन के अधीन है।
3. विज्ञान अपरिवर्तनीय तथ्यों पर आधारित है।
4. एक बार स्थापित होने के बाद विज्ञान कभी नहीं बदलता है।

Question ID : 4410091618547
Option 1 ID : 4410096393062
Option 2 ID : 4410096393060
Option 3 ID : 4410096393061
Option 4 ID : 4410096393059

Q.14 सरकारी आदेश के अनुसार, एक निजी स्कूल आर्थिक रूप से कमजोर वर्ग के बच्चों और विशेष आवश्यकता वाले बच्चों के लिए अपनी 25% सीटें आरक्षित करता है। यह भारतीय शिक्षा में किस समावेशन रणनीति का एक उदाहरण है?

- Ans
- 1. बहुभाषी कक्षा निर्देश को अपनाना
 - 2. शैक्षणिक निष्पादन के आधार पर छात्रवृत्ति का प्रावधान
 - 3. विविध शिक्षार्थियों के लिए लचीली पाठ्यचर्या का कार्यान्वयन
 - 4. RTE द्वारा अनिवार्य निजी स्कूल आरक्षण का प्रवर्तन

Question ID : 4410091619207
Option 1 ID : 4410096395697
Option 2 ID : 4410096395699
Option 3 ID : 4410096395696
Option 4 ID : 4410096395698

Q.15 A doctor reviews a partial list of symptoms and selects the most likely diagnosis. Which type of reasoning is applied?

- Ans
- 1. Tautological reasoning
 - 2. Deductive reasoning
 - 3. Abductive reasoning
 - 4. Inductive reasoning

Question ID : 4410091606458
Option 1 ID : 4410096344843
Option 2 ID : 4410096344841
Option 3 ID : 4410096344840
Option 4 ID : 4410096344842

Q.16 ब्लूम के वर्गीकरण में, कौन-सा डोमेन मुख्य रूप से शारीरिक कौशल और समन्वय के विकास पर केंद्रित है?

- Ans
- 1. भावात्मक (Affective)
 - 2. मनोगामक (Psychomotor)
 - 3. सैद्धांतिक (Theoretical)
 - 4. संज्ञानात्मक (Cognitive)

Question ID : 4410091687771
Option 1 ID : 4410096657871
Option 2 ID : 4410096657872
Option 3 ID : 4410096657873
Option 4 ID : 4410096657870

Q.17 विद्यालयों में जेंडर समानता की दिशा में कार्य करने का एक मुख्य लक्ष्य क्या है?

- Ans
- 1. केवल अकादमिक विषयों पर केंद्रित होना
 - 2. विद्यार्थियों के बीच प्रतिस्पर्धा को प्रोत्साहित करना
 - 3. सभी जेंडर को समान अवसर प्रदान करना
 - 4. केवल एक जेंडर को ही भाग लेने की अनुमति देना

Question ID : 4410091624302
Option 1 ID : 4410096415738
Option 2 ID : 4410096415736
Option 3 ID : 4410096415735
Option 4 ID : 4410096415737

Q.18 एक शिक्षक विज्ञान के पाठ के दौरान समालोचनात्मक चिंतन को प्रोत्साहित करना चाहता है। इस लक्ष्य को प्राप्त करने के लिए विज्ञान किट का कौन-सा उपयोग सबसे उपयुक्त होगा?

- Ans
- 1. विद्यार्थियों की भागीदारी के बिना प्रयोगों का प्रदर्शन करना
 - 2. विद्यार्थियों को केवल पूर्वलिखित निर्देशों तक सीमित रखना
 - 3. विद्यार्थियों को किट मैनुअल से उत्तर को कॉपी करने के लिए कहना
 - 4. विद्यार्थियों को किट का उपयोग करके उनके स्वयं के प्रयोगों को डिजाइन करने में मार्गदर्शन करना

Question ID : 4410091640299
Option 1 ID : 4410096478397
Option 2 ID : 4410096478396
Option 3 ID : 4410096478395
Option 4 ID : 4410096478394

Q.19 समावेशी कक्षा में विशेष आवश्यकता वाले बच्चे की पहचान करने के लिए आकलन प्रक्रिया का पहला चरण क्या है?

- Ans
- 1. माता-पिता को स्थानन के बारे में सूचित करना
 - 2. बच्चे के अधिगम और व्यवहार का अवलोकन करना
 - 3. तुरंत विशेष पाठ्यचर्या निर्दिष्ट करना
 - 4. औपचारिक चिकित्सा निदान का संचालन करना

Question ID : 4410091688030
Option 1 ID : 4410096658909
Option 2 ID : 4410096658906
Option 3 ID : 4410096658907
Option 4 ID : 4410096658908

Q.20 एक शोध परियोजना के लिए, स्नातक विद्यार्थी अपने सहपाठियों के अंतःसांस्कृतिक संप्रेषण का आकलन करने के लिए एक रूबरिक (rubric) अभिकल्प बनाते हैं। यह कार्य ब्लूम के प्रक्षेत्र (domain) के किस पहलू का सर्वोत्तम उदाहरण प्रस्तुत करता है?

- Ans
- 1. संज्ञानात्मक प्रक्षेत्र में ज्ञान का उपयोग करना
 - 2. संज्ञानात्मक प्रक्षेत्र में मूल्यांकन का उपयोग करना
 - 3. मानोगामक प्रक्षेत्र में निर्माण
 - 4. भावात्मक प्रक्षेत्र में प्राप्त करना

Question ID : 4410091626496

Option 1 ID : 4410096424359

Option 2 ID : 4410096424357

Option 3 ID : 4410096424356

Option 4 ID : 4410096424358

