



GOVT. OF NCT OF DELHI  
Delhi Subordinate Services Selection Board  
FC-18, Institutional Area, Karkardooma, Delhi – 110092.  
[www.dsssb.delhigovt.nic.in](http://www.dsssb.delhigovt.nic.in)

Participant ID

Participant Name

Test Center Name

Aadarsh Pariksha Kendra CENTER B - Gate No 2 - Noida Sector 64
18/02/2026
5:00 PM - 7:00 PM
Assistant Teacher Primary

#### Intelligence and Reasoning Ability

भेमुख होकर बैठे व्यक्तियों की एक पंक्ति में, ज़ोहा दाएँ छोर से 25वें स्थान पर है। 34वें स्थान पर है। ज़ोहा और मीनल के ठीक बीच पिया है। यदि मीनल पंक्ति के स्थान पर है, तो पंक्ति में कितने व्यक्ति हैं?

Question ID : 4410091614394  
Option 1 ID : 4410096376396  
Option 2 ID : 4410096376395  
Option 3 ID : 4410096376393  
Option 4 ID : 4410096376394

भाषा में, 'WIRE' को '5421' के रूप में कूटबद्ध किया जाता है और 'PERI' को '1423' के रूप में कूटबद्ध किया जाता है। दी गई कूट भाषा में 'P' के लिए कूट क्या है?

Question ID : 4410091614527  
Option 1 ID : 4410096376924  
Option 2 ID : 4410096376922  
Option 3 ID : 4410096376923  
Option 4 ID : 4410096376921

Adda247

# Test Prime

**ALL EXAMS, ONE SUBSCRIPTION**



**1,00,000+**  
Mock Tests



**Personalised  
Report Card**



**Unlimited  
Re-Attempt**



**600+**  
Exam Covered



**25,000+** Previous  
Year Papers



**500%**  
Refund



**ATTEMPT FREE MOCK NOW**

कों में, प्रत्येक अक्षर-समूह एक निश्चित तर्क का अनुसरण करते हुए, अगले समूह ए गए विकल्पों में से उस विकल्प का चयन कीजिए जो समान तर्क का अनुसरण

- EURT
- H - HSAW
- SAWN - NAWS
- APST - TASP
- FLT - T FIL
- URCB - URBC

Question ID : 441009767188  
Option 1 ID : 4410093022746  
Option 2 ID : 4410093022747  
Option 3 ID : 4410093022745  
Option 4 ID : 4410093022748

'?' के स्थान पर क्या आना चाहिए?

:00 227 ?

Question ID : 441009176384  
Option 1 ID : 441009697460  
Option 2 ID : 441009697461  
Option 3 ID : 441009697459  
Option 4 ID : 441009697462

भर श्रृंखला का संदर्भ लें और नीचे दिए गए प्रश्न का उत्तर दें। गिनती केवल बाएँ से

VIFEDHITOUJUEDSABSIHRSAC (दाएँ)

। जिनमें से प्रत्येक के ठीक पहले एक व्यंजन है और ठीक बाद एक स्वर है?

हीं

Question ID : 441009787532  
Option 1 ID : 4410093104127  
Option 2 ID : 4410093104128  
Option 3 ID : 4410093104130  
Option 4 ID : 4410093104129

त को X-Y के अनुदिश रखा जाता है, जैसा कि दिए गए चित्र में दिखाया गया है, यों में से कौन-सा निम्न चित्र का जल प्रतिबिंब होगा?



Question ID : 4410091614510  
Option 1 ID : 4410096376859  
Option 2 ID : 4410096376860  
Option 3 ID : 4410096376858  
Option 4 ID : 4410096376857

क्रम पर आधारित, निम्नलिखित चार अक्षर-समूह युग्मों में से तीन एक निश्चित ङ और इस प्रकार वे एक गुप बनाते हैं। कौन-सा अक्षर-समूह युग्म, उस गुप से

क्षर-समूह युग्म, व्यंजनों/स्वरो की संख्या या उनकी स्थिति पर आधारित नहीं है।)

Y  
S  
A

Question ID : 441009790210  
Option 1 ID : 4410093114840  
Option 2 ID : 4410093114839  
Option 3 ID : 4410093114841  
Option 4 ID : 4410093114842

क्रम के आधार पर, निम्नलिखित चार अक्षर-समूह युग्मों में से तीन एक निश्चित  
 क्रम और इस प्रकार एक गुप बनाते हैं। कौन-सा अक्षर-समूह युग्म, उस गुप से

(अक्षर-समूह युग्म, व्यंजनों/स्वरो की संख्या या उनकी स्थिति पर आधारित नहीं है।)

Question ID : 441009346626

Option 1 ID : 4410091352570

Option 2 ID : 4410091352572

Option 3 ID : 4410091352571

Option 4 ID : 4410091352569

दो S एक ही इमारत के छह अलग-अलग तलों पर रहते हैं। इमारत के सबसे  
 तल क्रमांक 1 है, उसके ऊपर वाले तल का क्रमांक 2 है और इसी प्रकार सबसे ऊपर  
 तल क्रमांक 6 है। S तल क्रमांक 4 पर रहता है। S और G के बीच केवल दो व्यक्ति रहते  
 हैं। T तल क्रमांक 4 पर रहता है। A, S के ठीक नीचे रहता है। तल क्रमांक 2 पर कौन रहता

Question ID : 4410091614429

Option 1 ID : 4410096376535

Option 2 ID : 4410096376533

Option 3 ID : 4410096376536

Option 4 ID : 4410096376534

। B, C का पुत्र है। C का विवाह D से हुआ है। D, E की पुत्री है। E, F की पत्नी है।  
 F का A से क्या संबंध है?

भाई

पिता

पिता

Question ID : 441009832714

Option 1 ID : 4410093284063

Option 2 ID : 4410093284062

Option 3 ID : 4410093284061

Option 4 ID : 4410093284060

1 के प्रत्येक अंक को बाएं से दाएं आरोही क्रम में व्यवस्थित किए जाने पर बनी  
2 से दूसरे और दाएं से दूसरे अंक का योगफल क्या होगा?

Question ID : 4410091621626  
Option 1 ID : 4410096405309  
Option 2 ID : 4410096405310  
Option 3 ID : 4410096405307  
Option 4 ID : 4410096405308

3 द में प्रत्येक स्वर को अंग्रेजी वर्णमाला क्रम में उसके ठीक पहले वाले अक्षर से  
4 है और प्रत्येक व्यंजन को अंग्रेजी वर्णमाला क्रम में उसके ठीक बाद वाले अक्षर  
5 ता है। निम्नलिखित में से कौन-सा अक्षर इस प्रकार बने अक्षरों के नए समूह में  
6 आई देगा?

Question ID : 441009216472  
Option 1 ID : 441009849929  
Option 2 ID : 441009849927  
Option 3 ID : 441009849930  
Option 4 ID : 441009849928

7 i, N, U, B, E और S, एक पंक्ति में उत्तर दिशा की ओर अभिमुख होकर बैठे हैं। S  
8 बैठा है। S और B के बीच केवल तीन व्यक्ति बैठे हैं। B और A के बीच केवल दो  
9 D के बाएं तीसरे स्थान पर बैठा है। U, D के दाएं ठीक पड़ोस में बैठा है। N और  
10 व्यक्ति बैठे हैं?

Question ID : 4410091618820  
Option 1 ID : 4410096394153  
Option 2 ID : 4410096394152  
Option 3 ID : 4410096394155  
Option 4 ID : 4410096394154

क्रम के आधार पर दी गई श्रृंखला में ? के स्थान पर क्या आना चाहिए?

I TWO ?

Question ID : 4410091519023  
Option 1 ID : 4410095999345  
Option 2 ID : 4410095999343  
Option 3 ID : 4410095999342  
Option 4 ID : 4410095999344

गई पाँच, तीन-अंकीय संख्याओं पर आधारित है।

687 492 678 (दाएँ)

- पहला अंक = 6, दूसरा अंक = 9 और तीसरा अंक = 7)  
याएँ बाएँ से दाएँ की जानी हैं।

संख्या के दूसरे अंक को सबसे छोटी संख्या के दूसरे अंक में जोड़ा जाता है, तो  
त्त होगा?

Question ID : 441009788296  
Option 1 ID : 4410093107186  
Option 2 ID : 4410093107183  
Option 3 ID : 4410093107184  
Option 4 ID : 4410093107185

'÷' है, 'B' का अर्थ 'x' है, 'C' का अर्थ '+' है और 'D' का अर्थ '-' है, तो  
रीकरण में प्रश्न-चिह्न '?' के स्थान पर क्या आएगा?  
16 A 2=?

Question ID : 441009554141  
Option 1 ID : 4410092171881  
Option 2 ID : 4410092171878  
Option 3 ID : 4410092171880  
Option 4 ID : 4410092171879

यदि चित्र में दिखाए अनुसार M-N दिशा के अनुदिश रखा जाए, तो दिए गए चित्र-सा विकल्प चित्र का जल प्रतिबिंब होगा?



— Z



Question ID : 441009864924

Option 1 ID : 4410093412799

Option 2 ID : 4410093412798

Option 3 ID : 4410093412797

Option 4 ID : 4410093412796

भेमुख होकर 39 व्यक्तियों की एक पंक्ति में, लावण्या बाएं छोर से 17वें स्थान पर बैठा है, लावण्या के दाएं से 5वें स्थान पर बैठा है, तो पंक्ति के दाएं छोर से रजत का

Question ID : 441009216726

Option 1 ID : 441009850944

Option 2 ID : 441009850945

Option 3 ID : 441009850946

Option 4 ID : 441009850943

धर श्रृंखला का संदर्भ लें और प्रश्न का उत्तर दें। (गिनती केवल बाएँ से दाएँ की)

! A J N I D U R N L U H L T R (दाएँ)

1 हैं जिनमें से प्रत्येक के ठीक पहले एक स्वर है और ठीक बाद में भी एक स्वर है?

Question ID : 441009779771  
Option 1 ID : 4410093073089  
Option 2 ID : 4410093073087  
Option 3 ID : 4410093073090  
Option 4 ID : 4410093073088

का अनुसरण करते हुए, 16 का संबंध 63 से है। समान तर्क का अनुसरण करते  
199 से है। उसी तर्क का अनुसरण करने पर, 12 का संबंध निम्नलिखित में से  
हैं?

को उनके घटक अंकों में तोड़े बिना, पूर्ण संख्याओं पर संक्रियाएं की जानी  
के लिए 13 लीजिए, 13 पर संक्रियाएं जैसे कि 13 में जोड़ना/घटाना/गुणा  
सकता है। 13 को 1 और 3 में तोड़ना तथा फिर 1 और 3 पर गणितीय संक्रियाएं  
नहीं है।)

Question ID : 441009551973  
Option 1 ID : 4410092163209  
Option 2 ID : 4410092163208  
Option 3 ID : 4410092163207  
Option 4 ID : 4410092163206

rareness

गना के अनुसार, प्रमुख राज्यों में से किस राज्य की साक्षरता दर सबसे कम थी?

र

श

श

Question ID : 441009637586  
Option 1 ID : 4410092504488  
Option 2 ID : 4410092504490  
Option 3 ID : 4410092504487  
Option 4 ID : 4410092504489

2025 किस व्यापक नीतिगत अवसंरचना के साथ खेल संबंधी पहलों को  
?

द्योगिकी नीति 2024

वसंरचना नीति 2023

सस्थ नीति 2022

शेक्षा नीति 2020

Question ID : 4410091546883

Option 1 ID : 4410096110403

Option 2 ID : 4410096110402

Option 3 ID : 4410096110401

Option 4 ID : 4410096110400

के किस मुगल सम्राट ने पहली बार जजिया कर का उन्मूलन किया?

Question ID : 4410091270521

Option 1 ID : 4410095014004

Option 2 ID : 4410095014003

Option 3 ID : 4410095014001

Option 4 ID : 4410095014002

central bank do to increase money supply in the economy?

ing the amount of funds

ing Cash reserve ratio

ing bank rate

ising bank rate

Question ID : 441009628148

Option 1 ID : 4410092466744

Option 2 ID : 4410092466747

Option 3 ID : 4410092466745

Option 4 ID : 4410092466746

के कौन-सा ग्रामीण विकास पर केंद्रित नहीं है?

क क्षेत्रों में आय स्तर में वृद्धि

ना विकास और गरीबी के लिए विशेष उपाय

और कौशल विकास का विकास

थानीय क्षेत्र के उत्पादक संसाधनों का विकास

Question ID : 441009510730

Option 1 ID : 4410091998081

Option 2 ID : 4410091998080

Option 3 ID : 4410091998078

Option 4 ID : 4410091998079

में कथित तौर पर राजद्रोहपूर्ण लेख प्रकाशित करने के आरोप में मांडले  
गाने के दौरान, बाल गंगाधर तिलक ने निम्नलिखित में से कौन सी महत्वपूर्ण कृति

:  
न  
स्य  
ा

Question ID : 4410091551195  
Option 1 ID : 4410096127074  
Option 2 ID : 4410096127073  
Option 3 ID : 4410096127071  
Option 4 ID : 4410096127072

रा 'प्रधानमंत्री रोजगार सृजन कार्यक्रम (PMEGP)' निम्नलिखित में से किस वर्ष  
या था?

Question ID : 441009637571  
Option 1 ID : 4410092504428  
Option 2 ID : 4410092504427  
Option 3 ID : 4410092504429  
Option 4 ID : 4410092504430

ा के निम्नलिखित अनुच्छेदों में से कौन-सा अनुच्छेद, भारत के प्रधानमंत्री की  
मत है?

80  
62  
60  
75

Question ID : 441009343160  
Option 1 ID : 4410091338626  
Option 2 ID : 4410091338624  
Option 3 ID : 4410091338623  
Option 4 ID : 4410091338625

अम्ल घटक क्या होता है?

- अम्ल
- अम्ल
- अम्ल
- अम्ल

Question ID : 441009513011  
Option 1 ID : 4410092007081  
Option 2 ID : 4410092007082  
Option 3 ID : 4410092007080  
Option 4 ID : 4410092007083

साइकिलिंग इवेंट, 2025 में पहली बार वेटिकन से होकर गुजरा?

- स्पेन (Vuelta a España)
- इटालिया (Giro d'Italia)
- फ्रांस (Tour de France)
- अंडर (Tour Down Under)

Question ID : 441009283027  
Option 1 ID : 4410091099264  
Option 2 ID : 4410091099262  
Option 3 ID : 4410091099263  
Option 4 ID : 4410091099265

दाब क्षेत्र लगभग 30° उत्तरी और दक्षिणी अक्षांशों के आसपास स्थित है और संबंधित है?

- शीत निम्न (Equatorial low)
- ध्रुवीय उच्च (Polar high)
- उच्च (Sub-tropical high)
- शीत निम्न (Sub-polar low)

Question ID : 441009320105  
Option 1 ID : 4410091246689  
Option 2 ID : 4410091246691  
Option 3 ID : 4410091246692  
Option 4 ID : 4410091246690

मे कौन-सी, भारतीय शास्त्रीय संगीत की एक प्रमुख परंपरा है जिसकी उत्पत्ति थी?

- मी

Question ID : 441009753587  
Option 1 ID : 4410092968331  
Option 2 ID : 4410092968330  
Option 3 ID : 4410092968329  
Option 4 ID : 4410092968332

के कौन-सा कथन, मंत्रियों से संबंधित संवैधानिक प्रावधानों को उचित बद्ध करता है?

अनुसूची के अंतर्गत अयोग्य घोषित सांसद को अनुच्छेद 75(1B) के अंतर्गत एक निर्दिष्ट अवधि के लिए उक्त नहीं किया जा सकता है।

सूची में उल्लिखित प्रावधानों के अनुसार, मंत्री राष्ट्रपति की इच्छा के अनुसार अपने पद पर बने रहते हैं।

शपथ का प्ररूप संविधान की द्वितीय अनुसूची में निर्धारित है।

राष्ट्रपति की सामूहिक जिम्मेदारी, चौथी अनुसूची में दिए गए प्रावधानों के माध्यम से लागू की जाती है।

Question ID : 441009671875

Option 1 ID : 4410092641594

Option 2 ID : 4410092641596

Option 3 ID : 4410092641595

Option 4 ID : 4410092641597

के कौन-सी अर्हता किसी व्यक्ति को भारतीय राज्य के राज्यपाल के रूप में लेने आवश्यक है?

1. सदस्य है

2. से संबंधित है जिस राज्य में नियुक्त किया गया है और 30 वर्ष की आयु पूरी कर चुका है

3. न्यायाधीश के रूप में सेवा की है

4. नागरिक है और 35 वर्ष की आयु पूरी कर चुका है

Question ID : 441009672146

Option 1 ID : 4410092642678

Option 2 ID : 4410092642681

Option 3 ID : 4410092642679

Option 4 ID : 4410092642680

चैंपियनशिप, 2025 किस शहर में आयोजित की गई थी?

1. मुंबई

2. दिल्ली

3. कोलकाता

4. चेन्नई

Question ID : 4410091330899

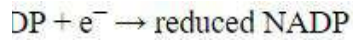
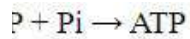
Option 1 ID : 4410095255197

Option 2 ID : 4410095255196

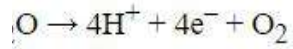
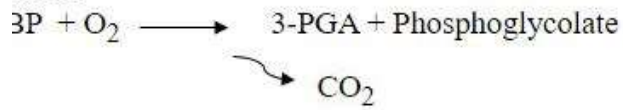
Option 3 ID : 4410095255194

Option 4 ID : 4410095255195

of photosynthesis, which of the following chemical reactions is photolysis?



isCO



Question ID : 441009625489

Option 1 ID : 4410092456088

Option 2 ID : 4410092456089

Option 3 ID : 4410092456091

Option 4 ID : 4410092456090

नव वर्ष सूर्य-पृथ्वी L1 बिंदु के चारों ओर हेला ऑर्बिट में प्रवेश करने वाला प्रथम यान था?

Question ID : 441009379055

Option 1 ID : 4410091482048

Option 2 ID : 4410091482045

Option 3 ID : 4410091482047

Option 4 ID : 4410091482046

West Bengal) की स्थापना कब हुई थी?

1956

1957

1958

1959

Question ID : 441009103048

Option 1 ID : 441009410258

Option 2 ID : 441009410259

Option 3 ID : 441009410257

Option 4 ID : 441009410256

Mrka Baul) नृत्य शैली किस राज्य से संबंधित है?

- श
- गाल
- ड

Question ID : 441009186510  
Option 1 ID : 441009737109  
Option 2 ID : 441009737107  
Option 3 ID : 441009737108  
Option 4 ID : 441009737106

मल 2025 में 'गौरव' का सफल परीक्षण किस विमान से किया गया?

- MK
- 000

Question ID : 441009240597  
Option 1 ID : 441009940494  
Option 2 ID : 441009940493  
Option 3 ID : 441009940495  
Option 4 ID : 441009940492

Reasoning and Numerical Ability

गौर 12 मीटर ऊंचाई वाले एक शंक्वाकार जल टावर का निर्माण प्रबलित कंक्रीट  
यदि कंक्रीट की कीमत ₹350 प्रति  $m^2$  है, तो आधार सहित इस टावर के निर्माण  
की लागत ज्ञात कीजिए। (दिया गया है:  $\pi = 3.14$ )

- 761
- 124
- 128
- 384

Question ID : 44100952285  
Option 1 ID : 441009208258  
Option 2 ID : 441009208256  
Option 3 ID : 441009208257  
Option 4 ID : 441009208255

$\frac{3}{54} \times 198$  को सरल कीजिए।

Question ID : 441009575767

Option 1 ID : 4410092258188

Option 2 ID : 4410092258191

Option 3 ID : 4410092258190

Option 4 ID : 4410092258189

और Z ने 5 : 2 : 8 के अनुपात में धनराशि निवेश करके एक व्यवसाय शुरू  
द X ने अपनी पूंजी का आधा हिस्सा निकाल लिया। यदि Z द्वारा निवेश की गई  
0 है, तो ₹55000 के कुल वार्षिक लाभ में से X और Y के लाभ के बीच का अंतर

Question ID : 441009899594

Option 1 ID : 4410093552448

Option 2 ID : 4410093552446

Option 3 ID : 4410093552449

Option 4 ID : 4410093552447

और 25 cm ऊँचाई वाले लकड़ी के एक ठोस बेलन से समान ऊँचाई और समान  
कु बनाया जाता है। बेलन के शेष भाग का संपूर्ण पृष्ठीय क्षेत्रफल (cm<sup>2</sup> में,  
नक पूर्णांकित) कितना है?

Question ID : 441009125603

Option 1 ID : 441009499258

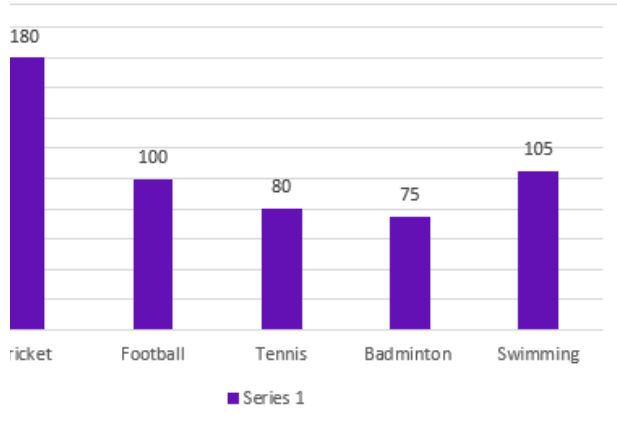
Option 2 ID : 441009499255

Option 3 ID : 441009499257

Option 4 ID : 441009499256

आलेख में किसी विद्यालय के 540 विद्यार्थियों के पसंदीदा खेलों का आलेख है।

अध्ययन करें और निम्नलिखित प्रश्न का उत्तर दें।



क्रिकेट पसंद करने वाले विद्यार्थियों की संख्या और बैडमिंटन पसंद करने वाले विद्यार्थियों की संख्या का अनुपात ज्ञात कीजिए।

अनुपात  
क्रिकेट  
की संख्या  
बैडमिंटन  
की संख्या  
से।

Question ID : 4410095716  
Option 1 ID : 44100922644  
Option 2 ID : 44100922643  
Option 3 ID : 44100922645  
Option 4 ID : 44100922642

एक दर्जन की दर से 25 दर्जन सामान खरीदा। उसने उनमें से प्रत्येक को ₹330 का भुगतान किया। उसका प्रतिशत लाभ कितना था?

Question ID : 441009125511  
Option 1 ID : 441009498890  
Option 2 ID : 441009498887  
Option 3 ID : 441009498888  
Option 4 ID : 441009498889

1 को 16 घंटे में भरता है। दूसरा नल पूरी भरी टंकी को 80 घंटे में खाली कर देता है। जब दोनों नल एक साथ खोल दिए जाएं, तो टंकी का एक चौथाई खाली होना कितना समय (घंटों में) लगेगा?

Question ID : 441009897248

Option 1 ID : 4410093543063

Option 2 ID : 4410093543062

Option 3 ID : 4410093543065

Option 4 ID : 4410093543064

खेत की लंबाई और चौड़ाई का अनुपात 8 : 7 है। यदि खेत का परिमाप 90 m है, तो खेत का क्षेत्रफल (m<sup>2</sup> में) ज्ञात कीजिए।

Question ID : 4410099017

Option 1 ID : 44100935832

Option 2 ID : 44100935833

Option 3 ID : 44100935835

Option 4 ID : 44100935834

₹12,000 प्रति माह है। वह ₹5,000 घर के किराए पर, ₹3,000 बिलों पर खर्च करती है। उसकी रकम उसकी मासिक बचत है। यदि उसने अपने जन्मदिन के महीने में खर्च के लिए अपनी पूरी मासिक बचत खर्च कर दी, तो एक वर्ष में उसकी बचत (₹ में) कितनी होगी?

Question ID : 441009209381

Option 1 ID : 441009822809

Option 2 ID : 441009822808

Option 3 ID : 441009822807

Option 4 ID : 441009822810

अनुपात 3 : 5 हैं, उनका लघुत्तम समापवर्त्य (LCM) 90 है। संख्याएं ज्ञात

Question ID : 44100910888

Option 1 ID : 44100943366

Option 2 ID : 44100943367

Option 3 ID : 44100943369

Option 4 ID : 44100943368

ग औसत 21 है। यदि दो संख्याएँ 16 और 23 हैं, तो तीसरी संख्या ज्ञात कीजिए।

Question ID : 441009581272

Option 1 ID : 4410092280216

Option 2 ID : 4410092280214

Option 3 ID : 4410092280217

Option 4 ID : 4410092280215

घ अंकित मूल्य पर 10% और 20% की दो क्रमिक छूट देता है, जो ₹140 की बर है। यदि क्रय मूल्य ₹288 है, तो सईद उस रूलर पर कितने प्रतिशत लाभ

Question ID : 441009894328

Option 1 ID : 4410093531385

Option 2 ID : 4410093531383

Option 3 ID : 4410093531382

Option 4 ID : 4410093531384

के बीच माध्यानुपाती 48 है, तो  $x$  का मान ज्ञात कीजिए।

Question ID : 441009125532  
Option 1 ID : 441009498973  
Option 2 ID : 441009498974  
Option 3 ID : 441009498972  
Option 4 ID : 441009498971

ः नाविक धारा की दिशा में 12 km की दूरी 1 घंटे में तय करता है और 1 घंटे 12 मिनट आता है। स्थिर जल में नाविक की चाल ज्ञात कीजिए।

n/hr

/hr

'hr

/hr

Question ID : 441009125499  
Option 1 ID : 441009498841  
Option 2 ID : 441009498842  
Option 3 ID : 441009498840  
Option 4 ID : 441009498839

पर 2 वर्षों में 8% वार्षिक ब्याज दर से साधारण ब्याज के रूप में ₹1680 प्राप्त

Question ID : 441009852630  
Option 1 ID : 4410093363492  
Option 2 ID : 4410093363495  
Option 3 ID : 4410093363494  
Option 4 ID : 4410093363493

को क्रमशः 2 घंटे और 31 घंटे में भर सकते हैं। एक तीसरा नल उसे 31 घंटे में  
। है। यदि तीनों नल को एक साथ खोल दिया जाए, तो खाली टंकी को भरने में  
टों में) लगेगा?

Question ID : 441009194614  
Option 1 ID : 441009766405  
Option 2 ID : 441009766403  
Option 3 ID : 441009766404  
Option 4 ID : 441009766406

भौसत 45 है। यदि प्रत्येक संख्या में 3 की वृद्धि की जाए, तो नया औसत ज्ञात

Question ID : 441009581568  
Option 1 ID : 4410092281399  
Option 2 ID : 4410092281398  
Option 3 ID : 4410092281400  
Option 4 ID : 4410092281401

; रूपेश और मंदार हैं। 12 वर्षीय रूपेश को शिवम की संपत्ति से कुछ धनराशि  
3 वर्षीय मंदार को शेष धनराशि मिलती है। लेकिन रूपेश और मंदार को यह  
लेगी जब वे 25 वर्ष के हो जाएंगे। तब तक, धनराशि किसी बैंक में रखी जाएगी  
षेक दर से ब्याज (वार्षिक रूप से संयोजित) अर्जित होगा। जब दोनों 25 वर्ष के  
हैं समान धनराशि मिलती है। यदि शिवम के पास कुल धनराशि ₹23,400 थी, तो  
न में मंदार को कितनी धनराशि (₹ में) दी थी?

Question ID : 441009543439  
Option 1 ID : 4410092129152  
Option 2 ID : 4410092129153  
Option 3 ID : 4410092129155  
Option 4 ID : 4410092129154

की दूरी 752 km है। A से, विशाल 96 km/hr की चाल से B तक जाता है और  
 ाल से A पर वापस आता है।  
 त चाल ज्ञात कीजिए। (दो दशमलव स्थानों तक पूर्णांकित)

km/hr

km/hr

km/hr

km/hr

Question ID : 441009209090

Option 1 ID : 441009821646

Option 2 ID : 441009821643

Option 3 ID : 441009821645

Option 4 ID : 441009821644

1,000 में 50 नोटबुक खरीदता है। दुकानदार सभी नोटबुक को ₹1,250 में बेच  
 र का लाभ प्रतिशत ज्ञात कीजिए।

Question ID : 4410091546361

Option 1 ID : 4410096108318

Option 2 ID : 4410096108315

Option 3 ID : 4410096108317

Option 4 ID : 4410096108316

guage and Comprehension

ord which is not spelt correctly.

we conclude that the report contained inconsistant data that  
caution.

tion

ittee

ded

istant

Question ID : 4410091555158

Option 1 ID : 4410096143265

Option 2 ID : 4410096143266

Option 3 ID : 4410096143264

Option 4 ID : 4410096143263

appropriate conjunction to fill in the blank.

inning heavily, the match continued.

igh

Question ID : 4410091027545  
 Option 1 ID : 4410094061711  
 Option 2 ID : 4410094061713  
 Option 3 ID : 4410094061714  
 Option 4 ID : 4410094061712

ing question a statement has been given with highlighted text.  
 red to replace the text with the correct idiom from the given

's market share has been growing speedily in the last few  
 because of its strong customer base and innovative products.

and starts

ps and bounds

rk or crook

eleventh hour

Question ID : 4410091264426  
 Option 1 ID : 4410094990594  
 Option 2 ID : 4410094990596  
 Option 3 ID : 4410094990595  
 Option 4 ID : 4410094990597

ost appropriate option that can substitute the underlined words  
 sentence.  
 es at present locked in old diaries, half wiped out in the  
 the aged.

ated

ed

minated

Question ID : 4410091543754  
 Option 1 ID : 4410096098090  
 Option 2 ID : 4410096098092  
 Option 3 ID : 4410096098091  
 Option 4 ID : 4410096098093

entence are given below. While the first and the last part (S1) and rrect order, the parts in between are jumbled up. Arrange the rrect order to form a meaningful sentence.

have assessed  
: patterns and  
our disposal  
ferences for you  
municate our  
samples accordingly.

Question ID : 4410091534546  
Option 1 ID : 4410096061433  
Option 2 ID : 4410096061431  
Option 3 ID : 4410096061432  
Option 4 ID : 4410096061434

following sentence using the most appropriate option.

anager created ..... one-year plan to improve sanitation of the

cle

Question ID : 4410091048559  
Option 1 ID : 4410094143354  
Option 2 ID : 4410094143352  
Option 3 ID : 4410094143353  
Option 4 ID : 4410094143355

ntonym of the underlined word in the sentence given below.

ite of the region makes agriculture difficult.

Question ID : 4410091639661  
Option 1 ID : 4410096476039  
Option 2 ID : 4410096476040  
Option 3 ID : 4410096476042  
Option 4 ID : 4410096476041

entence are given below. While the first part is in the correct  
aining parts (labelled P, Q, R and S) are jumbled up. Arrange the  
orrect order to form a meaningful and coherent sentence.

alked to the station, / trying to catch the train (P) / before it  
checking the time (R) / on her phone (S)

Question ID : 44100929807  
Option 1 ID : 441009118688  
Option 2 ID : 441009118687  
Option 3 ID : 441009118686  
Option 4 ID : 441009118685

ost appropriate option that can substitute the underlined words  
entence.  
ir coming in between months occurred one of the unhappiest  
of my life.

ining

sting

ing

ing

Question ID : 4410091543773  
Option 1 ID : 4410096098175  
Option 2 ID : 4410096098176  
Option 3 ID : 4410096098177  
Option 4 ID : 4410096098174

ost appropriate option to fill in the blank.

her did not let her yield.

Question ID : 441009482918  
Option 1 ID : 4410091887022  
Option 2 ID : 4410091887024  
Option 3 ID : 4410091887023  
Option 4 ID : 4410091887021

ppropriate verb form to complete the sentence.

r \_\_\_\_\_ the issue earlier, we might have avoided the delay.

- s
- Addressed
- ses
- sed

Question ID : 4410091123464  
Option 1 ID : 4410094429413  
Option 2 ID : 4410094429415  
Option 3 ID : 4410094429416  
Option 4 ID : 4410094429414

tion that is the most appropriate antonym of the highlighted  
ven sentence.  
ns were explicit and easy to follow.

- d
- e
- t
- ant

Question ID : 4410091603215  
Option 1 ID : 4410096332057  
Option 2 ID : 4410096332058  
Option 3 ID : 4410096332056  
Option 4 ID : 4410096332059

ave been underlined in the given sentence. One of them is  
m the given options, select the misspelt word.  
a short step to the practice of the sophisticated arts hitherto  
sed by women - to the writing of essays and criticism, of  
ography.

- m
- o
- ticated
- ghy

Question ID : 4410091544917  
Option 1 ID : 4410096102725  
Option 2 ID : 4410096102724  
Option 3 ID : 4410096102723  
Option 4 ID : 4410096102726

Most appropriate option to fill in the given blank.

Her, she would have passed the exam.

3

lying

studied

Question ID : 4410091127421

Option 1 ID : 4410094445236

Option 2 ID : 4410094445237

Option 3 ID : 4410094445239

Option 4 ID : 4410094445238

Best appropriate option to substitute the underlined word in the given sentence.

5.

leap in the dark

eat pains

hit his heels

hurdles

Question ID : 4410091529446

Option 1 ID : 4410096040885

Option 2 ID : 4410096040884

Option 3 ID : 4410096040883

Option 4 ID : 4410096040886

ion:

Read the passage and answer the questions that follow.

In medieval Europe, monasteries played a crucial role in preserving knowledge as formal education was limited and literacy was rare. Following the decline of the Roman Empire, many centres of learning collapsed, but monastic communities continued to write and study as part of their religious life. Monks devoted long hours to copying manuscripts by hand, ensuring the survival of classical texts in philosophy, medicine, and theology. Monasteries functioned not only as religious institutions but also as centres of learning. Their libraries became repositories of accumulated knowledge, carefully preserved across generations. In addition to copying ancient works, monks produced commentaries, chronicles and scientific observations, blending classical learning with practical knowledge. These activities helped shape medieval scholarship and laid foundations for the intellectual movements of the later Middle Ages. Monastic schools also trained clerics and administrators, promoting governance and record keeping. Although access to this knowledge was restricted, the careful preservation of texts meant that Europe did not entirely lose touch with its intellectual past. When universities began to emerge in the later Middle Ages, they relied on materials that monasteries had safeguarded for centuries, making monasteries a vital link between antiquity and the Renaissance.

No : 16

Which of the following occupied a large part of monks' daily work?

Reading fictional literature

Attending public debates

Copying manuscripts by hand

Learning foreign languages

Question ID : 4410091587194

Option 1 ID : 4410096269669

Option 2 ID : 4410096269670

Option 3 ID : 4410096269671

Option 4 ID : 4410096269668

ion:

Read the passage and answer the questions that follow.

In medieval Europe, monasteries played a crucial role in preserving knowledge as formal education was limited and literacy was rare. Following the decline of the Roman Empire, many centres of learning collapsed, but monastic communities continued to write and study as part of their religious life. Monks devoted long hours to copying manuscripts by hand, ensuring the survival of classical texts in philosophy, medicine, and astronomy. Monasteries functioned not only as religious institutions but also as centres of learning. Their libraries became repositories of accumulated knowledge, carefully preserved across generations. In addition to copying ancient works, monks produced commentaries, chronicles and scientific observations, blending classical learning with Christian thought. These activities helped shape medieval scholarship and laid foundations for the intellectual movements of the later Middle Ages. Monastic schools also trained clerics and administrators, promoting governance and record keeping. Although access to this knowledge was restricted, the careful preservation of texts meant that Europe did not entirely lose touch with its intellectual past. When universities began to emerge in the later Middle Ages, they relied on materials that monasteries had safeguarded for centuries, making monasteries a vital link between antiquity and the Renaissance.

No : 17

Which of the following best describes how monasteries treated classical learning?

A. They replaced it with theology.

B. They removed its philosophical elements.

C. They combined it with Christian thought.

D. They reserved it without change.

Question ID : 4410091587195

Option 1 ID : 4410096269675

Option 2 ID : 4410096269674

Option 3 ID : 4410096269673

Option 4 ID : 4410096269672

ion:

Read the passage and answer the questions that follow.

In medieval Europe, monasteries played a crucial role in preserving knowledge as formal education was limited and literacy was rare. Following the decline of the Roman Empire, many centres of learning collapsed, but monastic communities continued to write and study as part of their religious life. Monks devoted long hours to copying manuscripts by hand, ensuring the survival of classical texts in philosophy, medicine, and theology. Monasteries functioned not only as religious institutions but also as centres of learning. Their libraries became repositories of accumulated knowledge, carefully preserved across generations. In addition to copying ancient works, monks produced commentaries, chronicles and scientific observations, blending classical learning with practical knowledge. These activities helped shape medieval scholarship and laid foundations for the intellectual movements of the Renaissance. Monastic schools also trained clerics and administrators, promoting governance and record keeping. Although access to this knowledge was restricted, the careful preservation of texts meant that Europe did not entirely lose touch with its intellectual past. When universities began to emerge in the later Middle Ages, they often relied on materials that monasteries had safeguarded for centuries, making monasteries a vital link between antiquity and the Renaissance.

No : 18

Choose the most appropriate title for the passage.

(A) Revival of Classical Thought

(B) The Role of Learning in Europe in the Medieval Age

(C) Monasteries and Medieval Power

(D) Monasteries as Keepers of Knowledge

Question ID : 4410091587196

Option 1 ID : 4410096269677

Option 2 ID : 4410096269679

Option 3 ID : 4410096269678

Option 4 ID : 4410096269676

ion:

Read the passage and answer the questions that follow.

In medieval Europe, monasteries played a crucial role in preserving knowledge at a time when formal education was limited and literacy was rare. Following the decline of the Roman Empire, many centres of learning collapsed, but monastic communities continued to write and study as part of their religious life. Monks devoted long hours to copying manuscripts by hand, ensuring the survival of classical texts in philosophy, medicine, and theology. Monasteries functioned not only as religious institutions but also as centres of learning. Their libraries became repositories of accumulated knowledge, carefully preserved across generations. In addition to copying ancient works, monks produced commentaries, chronicles and scientific observations, blending classical learning with practical knowledge. These activities helped shape medieval scholarship and laid foundations for the intellectual movements of the later Middle Ages. Monastic schools also trained clerics and administrators, promoting governance and record keeping. Although access to this knowledge was restricted, the careful preservation of texts meant that Europe did not entirely lose touch with its intellectual past. When universities began to emerge in the later Middle Ages, they relied on materials that monasteries had safeguarded for centuries, making monasteries a vital link between antiquity and the Renaissance.

No : 19

Find a synonym of "restricted"

wide

open

Question ID : 4410091587197

Option 1 ID : 4410096269682

Option 2 ID : 4410096269681

Option 3 ID : 4410096269683

Option 4 ID : 4410096269680

ion:

passage and answer the questions that follow.

In medieval Europe, monasteries played a crucial role in preserving knowledge as formal education was limited and literacy was rare. Following the decline of the Roman Empire, many centres of learning collapsed, but monastic communities continued to write and study as part of their religious life. Monks devoted long hours to copying manuscripts by hand, ensuring the survival of classical texts in philosophy, medicine, and theology. Monasteries functioned not only as religious institutions but also as centres of learning. Their libraries became repositories of accumulated knowledge, carefully preserved across generations. In addition to copying ancient works, monks produced commentaries, chronicles and scientific observations, blending classical learning with practical knowledge. These activities helped shape medieval scholarship and laid foundations for the Renaissance. Monastic schools also trained clerics and administrators, promoting governance and record keeping. Although access to this knowledge was limited, the careful preservation of texts meant that Europe did not entirely lose its intellectual past. When universities began to emerge in the later Middle Ages, they relied on materials that monasteries had safeguarded for centuries, making monasteries a vital link between antiquity and the Renaissance.

No : 20

Which of the following can be drawn about literacy in medieval Europe?

Equally distributed across regions

Found in urban regions only

Actively discouraged

Limited to select groups

Question ID : 4410091587198

Option 1 ID : 4410096269685

Option 2 ID : 4410096269687

Option 3 ID : 4410096269686

Option 4 ID : 4410096269684

Reading and Comprehension

किस भाग में चुट्टि है?  
के लिए कठोर तप अवश्यक है।

प

ष

ष है।

ले

Question ID : 4410091618456

Option 1 ID : 4410096392697

Option 2 ID : 4410096392695

Option 3 ID : 4410096392698

Option 4 ID : 4410096392696

नेरों में ग्रामीण व्यक्तित्व जीवंत हो उठता है।  
'दिए गए वाक्य के किस अंश में त्रुटि है?

नि

यक्तित्व

उठता है

में

Question ID : 4410091626843

Option 1 ID : 4410096425722

Option 2 ID : 4410096425724

Option 3 ID : 4410096425725

Option 4 ID : 4410096425723

म्य के किस भाग में वर्तनी संबंधी अशुद्धि है?  
का यही विचार है।

स

।

Question ID : 4410091624836

Option 1 ID : 4410096417871

Option 2 ID : 4410096417874

Option 3 ID : 4410096417873

Option 4 ID : 4410096417872

म्य के रेखांकित शब्द का पर्यायवाची कौन-सा है?  
रीठा था।'

Question ID : 4410091530846

Option 1 ID : 4410096046469

Option 2 ID : 4410096046468

Option 3 ID : 4410096046470

Option 4 ID : 4410096046467

रेखांकित शब्द का पर्यायवाची शब्द चुनिए -

श्री दुर्गा माँ की कंचन आभा वाली मूर्ति स्थापित है।

Question ID : 4410091547265

Option 1 ID : 4410096111928

Option 2 ID : 4410096111930

Option 3 ID : 4410096111927

Option 4 ID : 4410096111929

सो उचित क्रिया शब्द से पूर्ण कीजिए।

सामान \_\_\_\_\_।'

या

Question ID : 4410091237816

Option 1 ID : 4410094884799

Option 2 ID : 4410094884796

Option 3 ID : 4410094884798

Option 4 ID : 4410094884797

के लिए सार्थक शब्द चुनिए -

ने'

Question ID : 4410091286144

Option 1 ID : 4410095076350

Option 2 ID : 4410095076352

Option 3 ID : 4410095076353

Option 4 ID : 4410095076351

के लिए सार्थक शब्द चुनें-

Question ID : 4410091333080  
Option 1 ID : 4410095263947  
Option 2 ID : 4410095263945  
Option 3 ID : 4410095263946  
Option 4 ID : 4410095263944

'खाई' - लोकोक्ति का क्या अर्थ है?

मग्री का अभाव होना

र की बातें करना

र से विपत्ति का आना

पड़ना

Question ID : 4410091618363  
Option 1 ID : 4410096392325  
Option 2 ID : 4410096392324  
Option 3 ID : 4410096392326  
Option 4 ID : 4410096392323

एक क्रिया-विशेषण के प्रयोग से वाक्य पूरा करें-  
लती रहती है।

ल्दी

Question ID : 4410091251220  
Option 1 ID : 4410094938061  
Option 2 ID : 4410094938063  
Option 3 ID : 4410094938064  
Option 4 ID : 4410094938062

के लिए उचित विशेषण चुनिए।  
यक्तियों ने इस बात का विरोध किया।'

र

Question ID : 4410091237904  
Option 1 ID : 4410094885145  
Option 2 ID : 4410094885146  
Option 3 ID : 4410094885147  
Option 4 ID : 4410094885144

चिह्न का चयन कर रिक्त स्थान की पूर्ति कीजिए।  
.....पुस्तक है।'

Question ID : 4410091524750  
Option 1 ID : 4410096022207  
Option 2 ID : 4410096022210  
Option 3 ID : 4410096022209  
Option 4 ID : 4410096022208

साहित्यिक रचना का रूप-विश्लेषण किया गया।

'दिए गए वाक्य के किस अंश में त्रुटि है?

क रचना

द्वारा

विश्लेषण

II

Question ID : 4410091626850  
Option 1 ID : 4410096425751  
Option 2 ID : 4410096425750  
Option 3 ID : 4410096425752  
Option 4 ID : 4410096425753

कारक के प्रयोग से वाक्य को पूर्ण कीजिए।  
दवा ला रही है।

Question ID : 4410091251185  
Option 1 ID : 4410094937922  
Option 2 ID : 4410094937924  
Option 3 ID : 4410094937921  
Option 4 ID : 4410094937923

रूपों में से कौन-से वाक्य में वर्तनी से संबंधित त्रुटि नहीं है?

1 रामायण की रचना संस्कृत भाषा में हुई है।

2 रामायण की रचना संस्कृत भाषा में हुई है।

3 रामायण की रचना संस्कृत भाषा में हुई है।

4 रामायण की रचना संस्कृत भाषा में हुई है।

Question ID : 4410091530665  
Option 1 ID : 4410096045743  
Option 2 ID : 4410096045745  
Option 3 ID : 4410096045744  
Option 4 ID : 4410096045746

ion:

निम्नलिखित प्रश्नों के उत्तर दीजिए।

गाओं के साथ चलती रहती और उसकी सारी भीषणता को, ताल ठोककर, ललकारती रहती थी—सिर्फ़ क़! संध्या से लेकर प्रातःकाल तक एक ही गति से बजती रहती—'चट्-धा, गिड़-धा,...चट्-धा, गिड़-धा!' यानी गा जा भिड़ जा! ...बीच-बीच में—'चटाक्-चट्-धा, चटाक्-चट्-धा!' यानी 'उठाकर पटक दे! उठाकर पटक त-गाँव में संजीवनी शक्ति भरती रहती थी। लुट्टन सिंह पहलवान! यों तो वह कहा करता था—'लुट्टन सिंह इंडिया भर के लोग जानते हैं', किंतु उसके 'होल-इंडिया' की सीमा शायद एक जिले की सीमा के बराबर ही होग उसके नाम से अवश्य परिचित थे। लुट्टन के माता-पिता उसे नौ वर्ष की उम्र में ही अनाथ बनाकर चल बसे दी हो चुकी थी, वरना वह भी माँ-बाप का अनुसरण करता। विधवा सास ने पाल-पोस कर बड़ा किया। बचपन धारोष्ण दूध पीता और कसरत किया करता था। गाँव के लोग उसकी सास को तरह-तरह की तकलीफ़ न के सिर पर कसरत की धुन लोगों से बदला लेने के लिए ही सवार हुई थी।

No : 16

5 लिए उपयुक्त शीर्षक का चयन कीजिए।

नीरवता

न की ढोलक

की लाठी

न का समय

Question ID : 4410091524022  
Option 1 ID : 4410096019368  
Option 2 ID : 4410096019367  
Option 3 ID : 4410096019369  
Option 4 ID : 4410096019370

ion:

निम्नलिखित प्रश्नों के उत्तर दीजिए।

गाओं के साथ चलती रहती और उसकी सारी भीषणता को, ताल ठोककर, ललकारती रहती थी—सिर्फ़ क़! संध्या से लेकर प्रातःकाल तक एक ही गति से बजती रहती—'चट्-धा, गिड़-धा,...चट्-धा, गिड़-धा!' यानी गा जा भिड़ जा! ... बीच-बीच में—'चटाक्-चट्-धा, चटाक्-चट्-धा!' यानी 'उठाकर पटक दे! उठाकर पटक त-गाँव में संजीवनी शक्ति भरती रहती थी। लुट्टन सिंह पहलवान! यों तो वह कहा करता था—'लुट्टन सिंह इंडिया भर के लोग जानते हैं', किंतु उसके 'होल-इंडिया' की सीमा शायद एक जिले की सीमा के बराबर ही होग उसके नाम से अवश्य परिचित थे। लुट्टन के माता-पिता उसे नौ वर्ष की उम्र में ही अनाथ बनाकर चल बसे दी हो चुकी थी, वरना वह भी माँ-बाप का अनुसरण करता। विधवा सास ने पाल-पोस कर बड़ा किया। बचपन धारोष्ण दूध पीता और कसरत किया करता था। गाँव के लोग उसकी सास को तरह-तरह की तकलीफ़ न के सिर पर कसरत की धुन लोगों से बदला लेने के लिए ही सवार हुई थी।

No : 17

गा को कौन ललकारती रहती थी ?

शासन

न की ढोलक

योग

प्रहरी

Question ID : 4410091524023

Option 1 ID : 4410096019374

Option 2 ID : 4410096019372

Option 3 ID : 4410096019371

Option 4 ID : 4410096019373

ion:

निम्नलिखित प्रश्नों के उत्तर दीजिए।

गाओं के साथ चलती रहती और उसकी सारी भीषणता को, ताल ठोककर, ललकारती रहती थी—सिर्फ़ क़! संध्या से लेकर प्रातःकाल तक एक ही गति से बजती रहती—'चट्-धा, गिड़-धा,...चट्-धा, गिड़-धा!' यानी गा जा भिड़ जा! ... बीच-बीच में—'चटाक्-चट्-धा, चटाक्-चट्-धा!' यानी 'उठाकर पटक दे! उठाकर पटक त-गाँव में संजीवनी शक्ति भरती रहती थी। लुट्टन सिंह पहलवान! यों तो वह कहा करता था—'लुट्टन सिंह इंडिया भर के लोग जानते हैं', किंतु उसके 'होल-इंडिया' की सीमा शायद एक जिले की सीमा के बराबर ही होग उसके नाम से अवश्य परिचित थे। लुट्टन के माता-पिता उसे नौ वर्ष की उम्र में ही अनाथ बनाकर चल बसे दी हो चुकी थी, वरना वह भी माँ-बाप का अनुसरण करता। विधवा सास ने पाल-पोस कर बड़ा किया। बचपन धारोष्ण दूध पीता और कसरत किया करता था। गाँव के लोग उसकी सास को तरह-तरह की तकलीफ़ न के सिर पर कसरत की धुन लोगों से बदला लेने के लिए ही सवार हुई थी।

No : 18

न क्या था ?

ह

हं

ह

इ

Question ID : 4410091524024

Option 1 ID : 4410096019375

Option 2 ID : 4410096019378

Option 3 ID : 4410096019376

Option 4 ID : 4410096019377

**ion:**

निम्नलिखित प्रश्नों के उत्तर दीजिए।

गाओं के साथ चलती रहती और उसकी सारी भीषणता को, ताल ठोककर, ललकारती रहती थी—सिर्फ़ ऋ! संध्या से लेकर प्रातःकाल तक एक ही गति से बजती रहती—'चट्-धा, गिड़-धा,...चट्-धा, गिड़-धा!' यानी 'गा जा भिड़ जा!'...बीच-बीच में—'चटाक्-चट्-धा, चटाक्-चट्-धा!' यानी 'उठाकर पटक दे! उठाकर पटक त-गाँव में संजीवनी शक्ति भरती रहती थी। लुट्टन सिंह पहलवान! यों तो वह कहा करता था—'लुट्टन सिंह इंडिया भर के लोग जानते हैं', किंतु उसके 'होल-इंडिया' की सीमा शायद एक जिले की सीमा के बराबर ही भेग उसके नाम से अवश्य परिचित थे। लुट्टन के माता-पिता उसे नौ वर्ष की उम्र में ही अनाथ बनाकर चल बसे दी हो चुकी थी, वरना वह भी माँ-बाप का अनुसरण करता। विधवा सास ने पाल-पोस कर बड़ा किया। बचपन धारोष्ण दूध पीता और कसरत किया करता था। गाँव के लोग उसकी सास को तरह-तरह की तकलीफ़ न के सिर पर कसरत की धुन लोगों से बदला लेने के लिए ही सवार हुई थी।

**No : 19****शक्ति' का पर्यायवाची शब्द कौन है ?**

Question ID : 4410091524025

Option 1 ID : 4410096019379

Option 2 ID : 4410096019380

Option 3 ID : 4410096019382

Option 4 ID : 4410096019381

**ion:**

निम्नलिखित प्रश्नों के उत्तर दीजिए।

गाओं के साथ चलती रहती और उसकी सारी भीषणता को, ताल ठोककर, ललकारती रहती थी—सिर्फ़ ऋ! संध्या से लेकर प्रातःकाल तक एक ही गति से बजती रहती—'चट्-धा, गिड़-धा,...चट्-धा, गिड़-धा!' यानी 'गा जा भिड़ जा!'...बीच-बीच में—'चटाक्-चट्-धा, चटाक्-चट्-धा!' यानी 'उठाकर पटक दे! उठाकर पटक त-गाँव में संजीवनी शक्ति भरती रहती थी। लुट्टन सिंह पहलवान! यों तो वह कहा करता था—'लुट्टन सिंह इंडिया भर के लोग जानते हैं', किंतु उसके 'होल-इंडिया' की सीमा शायद एक जिले की सीमा के बराबर ही भेग उसके नाम से अवश्य परिचित थे। लुट्टन के माता-पिता उसे नौ वर्ष की उम्र में ही अनाथ बनाकर चल बसे दी हो चुकी थी, वरना वह भी माँ-बाप का अनुसरण करता। विधवा सास ने पाल-पोस कर बड़ा किया। बचपन धारोष्ण दूध पीता और कसरत किया करता था। गाँव के लोग उसकी सास को तरह-तरह की तकलीफ़ न के सिर पर कसरत की धुन लोगों से बदला लेने के लिए ही सवार हुई थी।

**No : 20****परिचित' का विलोम शब्द कौन है ?**

.

त

त

Question ID : 4410091524026

Option 1 ID : 4410096019384

Option 2 ID : 4410096019383

Option 3 ID : 4410096019385

Option 4 ID : 4410096019386

प्रति के कारण लड़कियां विज्ञान क्लबों में शामिल होने से हिचकिचाती हैं। यह दर्शाता है?

अज्ञान

योजना

क उत्सव

इभाव

Question ID : 4410091567597

Option 1 ID : 4410096191688

Option 2 ID : 4410096191691

Option 3 ID : 4410096191690

Option 4 ID : 4410096191689

निम्न कौन-सा कथन बच्चे की वृद्धि और विकास में 'व्यवस्थित प्रगति (orderly)' के सिद्धांत का सर्वोत्तम वर्णन करता है?

सरल से लेकर जटिल तक एक पूर्वानुमेय अनुक्रम का अनुसरण करता है।

स्था के बाद वृद्धि रुक जाती है और आगे नहीं बढ़ती है।

गर्भों का विकास समान दर से होता है।

बेना किसी अनुक्रम के यादृच्छिक रूप से होता है।

Question ID : 4410091647789

Option 1 ID : 4410096507413

Option 2 ID : 4410096507415

Option 3 ID : 4410096507416

Option 4 ID : 4410096507414

2) के अनुसार, संज्ञानात्मक विकास के प्रथम अवस्था को क्या कहा जाता है?

अक्रिय अवस्था

सक्रिय अवस्था

यात्मक अवस्था

अयात्मक अवस्था

Question ID : 4410091678032

Option 1 ID : 4410096620361

Option 2 ID : 4410096620358

Option 3 ID : 4410096620360

Option 4 ID : 4410096620359

गणाली में जनजातीय क्षेत्रों के बच्चों को किन चुनौतियों का सामना करना पड़ता

भाषाओं में निपुण शिक्षकों और शिक्षण सामग्री का अभाव

तिर गतिविधियों पर अत्यधिक ध्यान

प्लेटफार्मों तक भारी पहुंच

शी भाषाओं को सीखने में कठिनाई

Question ID : 4410091651986

Option 1 ID : 4410096523811

Option 2 ID : 4410096523812

Option 3 ID : 4410096523810

Option 4 ID : 4410096523813

वस्तु स्थायित्व की विशेषता पाई जाती है?

यात्मक अवस्था

यात्मक अवस्था

रक अवस्था

क संक्रियात्मक अवस्था

Question ID : 4410091533788

Option 1 ID : 4410096058340

Option 2 ID : 4410096058339

Option 3 ID : 4410096058342

Option 4 ID : 4410096058341

के जेंडर के आधार पर भिन्न प्रकार से या अनुचित रूप से व्यवहार करने की या कहा जाता है?

स समावेशन (Social inclusion)

(Poverty)

इंभाव (Gender discrimination)

(Diversity)

Question ID : 4410091546739

Option 1 ID : 4410096109834

Option 2 ID : 4410096109831

Option 3 ID : 4410096109832

Option 4 ID : 4410096109833

समय के साथ आकृति लेने वाले व्यवहार के एक स्थिर पैटर्न के रूप में व्यक्तित्व ; समझ को सर्वोत्तम रूप से दर्शाता है?

रिक रूप और मानसिक क्षमताओं द्वारा निर्धारित होता है।

द्वयतः संवेगात्मक अनुक्रियाएं और सामाजिक संबंध शामिल होते हैं।

नात्मक कौशल और नैतिक तर्क क्षमता को दर्शाता है।

नुगत लक्षणों की परस्पर क्रिया के माध्यम से विकसित होता है।

Question ID : 4410091616015

Option 1 ID : 4410096382999

Option 2 ID : 4410096382998

Option 3 ID : 4410096383000

Option 4 ID : 4410096382997

[सुभूमि वाले शिक्षार्थियों को सहायता प्रदान करने के लिए सबसे उपयुक्त retention) कौन-सा है?

हपाठी अनुशिक्षण

धेगम सहायक सामग्रियों का उपयोग करना

सस्वर पठन करना

गृहकार्य सौंपना

Question ID : 4410091628080

Option 1 ID : 4410096430501

Option 2 ID : 4410096430499

Option 3 ID : 4410096430500

Option 4 ID : 4410096430498

करण का मुख्य उद्देश्य क्या है?

ओं के बीच प्रतिस्पर्धा को बढ़ावा देना

ओं को परीक्षाओं के लिए तैयार करना

ह मानदंडों और मूल्यों को सीखना

कादमिक विषयों को पढ़ाना

Question ID : 4410091607672

Option 1 ID : 4410096349654

Option 2 ID : 4410096349655

Option 3 ID : 4410096349652

Option 4 ID : 4410096349653

is known for the development of self-concept in children?

ood

cence

/

: childhood

Question ID : 4410091627283

Option 1 ID : 4410096427421

Option 2 ID : 4410096427420

Option 3 ID : 4410096427418

Option 4 ID : 4410096427419

In a group project, a 10-year-old takes turns leading and listening, and is often blamed for a teammate who is upset. Which stage-specific trait is most likely to be displayed?

- Empathy and social responsibility
- Unconscious emotions like pride or shame
- Intense emotional reactions
- Testing limits through tantrums

Question ID : 4410091604057  
 Option 1 ID : 4410096335418  
 Option 2 ID : 4410096335419  
 Option 3 ID : 4410096335420  
 Option 4 ID : 4410096335421

Which of the following is most likely to be a conflict between a person who articulates principled ideals for society yet find it difficult to implement these standards in their own lives and a person who is more pragmatic?

- Idealism and emotional regulation
- Idealism and ideal audience
- Pragmatism and social inexperience
- Pragmatism and realistic consequences

Question ID : 4410091541926  
 Option 1 ID : 4410096090868  
 Option 2 ID : 4410096090867  
 Option 3 ID : 4410096090870  
 Option 4 ID : 4410096090869

Which of the following is most likely to be a conflict between a person who is multilingual and multicultural and a person who is monolingual and monocultural?

- Cultural diversity and social inexperience
- Cultural diversity and realistic consequences
- Cultural diversity and social inexperience
- Cultural diversity and realistic consequences

Question ID : 4410091546714  
 Option 1 ID : 4410096109735  
 Option 2 ID : 4410096109736  
 Option 3 ID : 4410096109737  
 Option 4 ID : 4410096109738

से कौन-सा कथन शांति शिक्षा को सर्वोत्तम तरीके से वर्णित करता है?

संस्कृति को हतोत्साहित करता है।

के माध्यम से सख्त अनुशासन को बढ़ावा देता है।

सा और सहिष्णुता के मूल्यों को सिखाता है।

विज्ञान एवं प्रौद्योगिकी पर केंद्रित है।

Question ID : 4410091696453

Option 1 ID : 4410096691704

Option 2 ID : 4410096691701

Option 3 ID : 4410096691703

Option 4 ID : 4410096691702

the curriculum focus to meet the RTE's stress-free learning

subject content scope

student qualification rules

assessment blueprints

learning experience

Question ID : 4410091557209

Option 1 ID : 4410096151365

Option 2 ID : 4410096151366

Option 3 ID : 4410096151368

Option 4 ID : 4410096151367

क विकास के चरणों में, पूर्व-पारंपरिक चरण (pre-conventional stage) में सा लक्षण देखा जाता है?

नैतिक संहिताओं द्वारा निर्देशित व्यवहार

चने पर आधारित निर्णय

अनुमोदन के लिए चिंता द्वारा निर्देशित क्रिया

क नैतिक सिद्धांतों पर आधारित निर्णय

Question ID : 4410091630110

Option 1 ID : 4410096438549

Option 2 ID : 4410096438546

Option 3 ID : 4410096438548

Option 4 ID : 4410096438547

नैतिक मूल्यों को किसी एक धर्म पर आधारित किया जाए, तो किस संवैधानिक  
। होता है?

के प्रति प्रतिबद्धता, विशेष रूप से जेंडर समावेशन के संदर्भ में

संस्थानों में विचार और अभिव्यक्ति की स्वतंत्रता की गारंटी

।क्षता का सिद्धांत, जिसके अनुसार धर्म संबंधी मामलों में राज्य को तटस्थ रहने की आवश्यकता होती है

क्षिक परिणामों को सुनिश्चित करने में आर्थिक न्याय का उद्देश्य

Question ID : 4410091628589

Option 1 ID : 4410096432508

Option 2 ID : 4410096432509

Option 3 ID : 4410096432506

Option 4 ID : 4410096432507

के संदर्भ में, राधा कृष्णन आयोग ने उच्च शिक्षा के प्रभावी विकास के लिए क्या

योजना निकायों के गठन को समाप्त करना

त्रेश्वविद्यालय को स्वतंत्र रूप से योजना बनाने की अनुमति देना

ज्ञा की सभी योजनाओं का विकेंद्रीकरण करना

ालय समन्वय के लिए एक राष्ट्रीय निकाय की स्थापना करना

Question ID : 4410091678824

Option 1 ID : 4410096623508

Option 2 ID : 4410096623507

Option 3 ID : 4410096623505

Option 4 ID : 4410096623506

976) के माध्यम से "भारत के संविधान की उद्देशिका" में कौन-से शब्द जोड़े

और न्याय

।दी और पंथ-निरपेक्ष

और समता

म्पन्न और लोकतंत्रात्मक

Question ID : 4410091570569

Option 1 ID : 4410096203247

Option 2 ID : 4410096203249

Option 3 ID : 4410096203248

Option 4 ID : 4410096203250

I की उद्देशिका में किस मूल्य का स्पष्ट रूप से निर्देशक सिद्धांत के रूप में  
II गया है?

I संरक्षण

Question ID : 4410091607889  
Option 1 ID : 4410096350502  
Option 2 ID : 4410096350500  
Option 3 ID : 4410096350503  
Option 4 ID : 4410096350501

रंवार इंटरशिप से किसका आकलन करने में सहायता मिलती है?

और कौशल का वास्तविक दुनिया में अनुप्रयोग

ों की केस स्टडी स्मरण करने की क्षमता

क्षा चर्चाओं में भागीदारी

द्धांतिक ज्ञान

Question ID : 4410091572387  
Option 1 ID : 4410096210537  
Option 2 ID : 4410096210538  
Option 3 ID : 4410096210539  
Option 4 ID : 4410096210536

i; देखता है कि विद्यार्थी भ्रमित प्रतीत हो रहे हैं और उन्हें गहन चिंतन के लिए  
हेतु कोई संकेत देता है, तो कौन-सा शैक्षिक कौशल प्रदर्शित हो रहा है?

ण (Probing)

(Reinforcement)

caffolding)

i (Repetition)

Question ID : 4410091681791  
Option 1 ID : 4410096634538  
Option 2 ID : 4410096634539  
Option 3 ID : 4410096634541  
Option 4 ID : 4410096634540

Following best describes 'Learning to Observe' as discussed in  
of self-understanding?

urges immediate reactions to any incidents.

res ignoring one's emotions, feelings, and actions subjectively.

ns copying others' behaviors and actions objectively.

ives paying attention to one's thoughts, feelings, and actions objectively.

Question ID : 4410091650000

Option 1 ID : 4410096516120

Option 2 ID : 4410096516119

Option 3 ID : 4410096516121

Option 4 ID : 4410096516118

fulness) मुख्य रूप से किस पर केंद्रित है?

अनुभवों का विश्लेषण करना

सी निर्णय के वर्तमान क्षण के प्रति पूर्णतः जागरूक रहना

के लिए नियोजन

को दबाना

Question ID : 4410091611632

Option 1 ID : 4410096365385

Option 2 ID : 4410096365384

Option 3 ID : 4410096365383

Option 4 ID : 4410096365386

परामर्शदात्री अपने क्लाइंट सत्रों के दौरान अपनी शारीरिक संवेदनाओं और  
करके अवलोकन के लिए अधिगम का अभ्यास करती है। यह अभ्यास समय के  
दात्री के रूप में उसकी प्रभावशीलता को किस प्रकार बढ़ाती है?

से व्यक्तिगत पूर्वाग्रहों को पहचानने और क्लाइंट के साथ वस्तुनिष्ठता बनाए रखने में मदद मिलती है

अपनी भावनाओं पर अत्यधिक ध्यान केंद्रित करने लगती है

अधिकांश सत्रों में क्लाइंट से संवेगात्मक रूप से दूर रहती है

हर बार क्लाइंट की कही हर बात से सहमत हो जाती है

Question ID : 4410091622669

Option 1 ID : 4410096409452

Option 2 ID : 4410096409455

Option 3 ID : 4410096409453

Option 4 ID : 4410096409454

relating to the step-by-step procedure for doing a certain task is categorized as which type of knowledge?

- Practical knowledge
- Explicit knowledge
- Applied knowledge
- Procedural knowledge

Question ID : 4410091550564  
 Option 1 ID : 4410096124717  
 Option 2 ID : 4410096124715  
 Option 3 ID : 4410096124716  
 Option 4 ID : 4410096124718

Which best reflects group conformity when members align their behavior with the group's expectations?

- Ambiguity
- Adherence
- Group emergence
- Avoidance

Question ID : 4410091632871  
 Option 1 ID : 4410096449605  
 Option 2 ID : 4410096449603  
 Option 3 ID : 4410096449602  
 Option 4 ID : 4410096449604

कौन अभ्यास (body scan exercise) के बाद विद्यार्थी-शिक्षकों का एक समूह करता है और शारीरिक तनाव के संबंध में अपने प्रेक्षकों को साझा करता है। (Wellness) उपागम के अनुसार, इस सामूहिक चिंतन का मुख्य उद्देश्य क्या है?

- अनुभवों को गहन आत्म-अंतर्दृष्टि से जोड़ना
- सुझाना करना कि सहपाठियों में से सर्वाधिक तनावमुक्त कौन था
- प्रत्येक शिक्षण शैलियों का मूल्यांकन करना
- सुझाना करना कि किसे अधिक शारीरिक व्यायाम की आवश्यकता है

Question ID : 4410091606187  
 Option 1 ID : 4410096343772  
 Option 2 ID : 4410096343773  
 Option 3 ID : 4410096343774  
 Option 4 ID : 4410096343775

development, which approach emphasizes the integration of arts to address social issues and foster holistic understanding?

Interdisciplinary approach

Student-centered approach

Project-based approach

Integrated curriculum

Question ID : 4410091624624

Option 1 ID : 4410096417028

Option 2 ID : 4410096417027

Option 3 ID : 4410096417030

Option 4 ID : 4410096417029

भाषा का उपयोग छात्रों के समय अधिगम में किस प्रकार सहायक होता है?

अर्थियों को अतिरिक्त बोध के बिना कक्षा के पाठों को दोहराने की सुविधा प्रदान करता है।

अर्थियों को कक्षा में प्राप्त ज्ञान का प्रयोग करने और प्रभावी संग्रहण कौशल विकसित करने में सहायता

प्रयोग मुख्यतः अनौपचारिक वार्तालाप के लिए किया जाता है, न कि अकादमिक विकास में योगदान देने के लिए।

इसमें दिए जाने वाले अनुदेश को पूर्णतः बदल देता है और केवल स्वतंत्र अधिगम को प्रोत्साहित करता है।

Question ID : 4410091542506

Option 1 ID : 4410096093108

Option 2 ID : 4410096093107

Option 3 ID : 4410096093109

Option 4 ID : 4410096093110

निम्नलिखित में से मुख्यतः \_\_\_\_\_ शामिल होता है।

भाषा में संवाद को सीमित रखना

संस्कृतियों के बीच संचार को बढ़ावा देना

अवसरों को कम करना

कला आदान-प्रदान को सीमित करना

Question ID : 4410091547672

Option 1 ID : 4410096113532

Option 2 ID : 4410096113531

Option 3 ID : 4410096113533

Option 4 ID : 4410096113534

कौन-सा, सांस्कृतिक अंतराल (cultural lag) का सर्वोत्तम वर्णन करता है?

संस्कृति में परिवर्तन के साथ गैर-भौतिक संस्कृति में विलंब

संस्कृति का विरोध करने वाली उपसंस्कृति

संस्कृति और वास्तविक संस्कृति के बीच का अंतर

संस्कृति में एक छोटा सांस्कृतिक समूह

Question ID : 4410091576576

Option 1 ID : 4410096227117

Option 2 ID : 4410096227116

Option 3 ID : 4410096227115

Option 4 ID : 4410096227118

कौन-सी अवधारणाओं (abstract scientific concepts) से  
एक शिक्षक को किस सिद्धांत (maxim) को प्राथमिकता देनी चाहिए?

अमूर्त की ओर

विशिष्ट की ओर

कठिन की ओर

आसान की ओर

Question ID : 4410091629258

Option 1 ID : 4410096435125

Option 2 ID : 4410096435122

Option 3 ID : 4410096435124

Option 4 ID : 4410096435123

Why is effective because tutors and learners often share a:

rigorous academic training

structured teaching approach

common language and understanding

similar learning pace

Question ID : 4410091636419

Option 1 ID : 4410096463579

Option 2 ID : 4410096463578

Option 3 ID : 4410096463577

Option 4 ID : 4410096463580

कौन-सी अवधारणा, उस प्रक्रिया को संदर्भित करती है जिसके द्वारा व्यक्ति  
नया ज्ञान सीखता है?

अभिव्यक्ति

आज्ञा

अभिव्यक्ति

Question ID : 4410091690218

Option 1 ID : 4410096667151

Option 2 ID : 4410096667152

Option 3 ID : 4410096667153

Option 4 ID : 4410096667150

What is indicated when a speaker inserts a vowel between two  
e.g., "s-táart")?

phonotactic constraint

articulatory overextension

retrieval speed

near morpheme learning

Question ID : 4410091558177

Option 1 ID : 4410096155051

Option 2 ID : 4410096155052

Option 3 ID : 4410096155050

Option 4 ID : 4410096155053

ng, what role does the tutor play in supporting their peer's  
ess?

tor assigns all homework without explanation.

tor explains concepts and provides feedback.

tor grades final exams without discussion.

tor takes attendance rather than teaching.

Question ID : 4410091641459

Option 1 ID : 4410096482948

Option 2 ID : 4410096482947

Option 3 ID : 4410096482950

Option 4 ID : 4410096482949

धिगम से विद्यार्थियों को जटिल टॉपिक को समझने में कैसे लाभ होता है?

ार्थियों को वास्तविक अनुभवों में सक्रिय रूप से संलग्न होने और उन पर विचार करने की अनुमति देता है।

रूप से परीक्षा देने की कार्यनीतियों पर केंद्रित है।

द्यार्थी केवल सहायकों द्वारा दी गई व्याख्याओं पर निर्भर हो जाते हैं।

द्यार्थियों को सूचना को शीघ्रता से याद करने की आवश्यकता होती है।

Question ID : 4410091608411

Option 1 ID : 4410096352557

Option 2 ID : 4410096352559

Option 3 ID : 4410096352558

Option 4 ID : 4410096352556

ि के लिए वातालाप के दौरान द्विभाषी अवस्था में संलग्न होने के लिए क्या  
इ?

क्षमता के कारण एक स्वचालित प्रतिक्रिया

पर एक पारस्परिक रूप से स्थापित समझौता

ाक्य के बाद एक विशुद्ध प्रत्यावर्तन

औपचारिकता का अभाव

Question ID : 4410091644978

Option 1 ID : 4410096496449

Option 2 ID : 4410096496446

Option 3 ID : 4410096496447

Option 4 ID : 4410096496448

11 कक्षाओं में आलोचनात्मक चिंतन के विकास में साहित्य किस प्रकार सहायता

- 1 कहानियों से तथ्यों को याद करने की आवश्यकता बताकर
- 2 अर्थों की व्याख्या करने और उन्हें आपस में जोड़ने के लिए प्रोत्साहित करके
- 3 से हस्तलेखन अभ्यास पर ध्यान केंद्रित करके
- 4 शिक्षक के पीछे वाक्यों को दोहराने के लिए कहकर

Question ID : 4410091651130  
 Option 1 ID : 4410096520631  
 Option 2 ID : 4410096520630  
 Option 3 ID : 4410096520633  
 Option 4 ID : 4410096520632

12. The main impact of television advertising on children and adults?

- 1 is only on educational content without affecting lifestyle or choices
- 2 is exposure to consumer culture and limits commercial influences entirely
- 3 encourages critical thinking and independent evaluation of all advertised products
- 4 shapes their attitudes, preferences, and buying behavior through repeated

Question ID : 4410091546586  
 Option 1 ID : 4410096109226  
 Option 2 ID : 4410096109225  
 Option 3 ID : 4410096109224  
 Option 4 ID : 4410096109223

13. वैश्विक भाषा के रूप में अंग्रेजी के प्रसार का सही वर्णन करता है?

- 1 वैविध वक्ताओं के बीच एक सामान्य भाषा के रूप में कार्य करती है।
- 2 पर कोई अंग्रेजी का प्रयोग अपनी पहली भाषा के रूप में करता है।
- 3 ल्युक देश की आधिकारिक भाषा है।
- 4 कमात्र वैश्विक भाषा है।

Question ID : 4410091651401  
 Option 1 ID : 4410096521556  
 Option 2 ID : 4410096521557  
 Option 3 ID : 4410096521559  
 Option 4 ID : 4410096521558

धि के दौरान, उच्च बुद्धिमत्ता वाला एक विद्यार्थी, जिसका संवेगात्मक कल्याण महपाठियों की तुलना में लगातार कम प्रदर्शन करता है। इस संदर्भ में, उसके डालने वाला सबसे संभावित कारक कौन-सा है?

बैठने की व्यवस्था

मक रणनीतियों तक सीमित पहुँच।

की कमी, जो स्कीमा निर्माण में बाधा डालती है।

क स्वास्थ्य, जो संज्ञानात्मक प्रसंस्करण को प्रभावित करता है।

Question ID : 4410091629793

Option 1 ID : 4410096437260

Option 2 ID : 4410096437259

Option 3 ID : 4410096437257

Option 4 ID : 4410096437258

वी ब्लॉक से टावर बना रही है और साथ ही स्थिरता और संतुलन के संबंध में स्वयं :। वह कभी-कभी अपने साथियों को देखती है, परंतु उनसे बातचीत नहीं करती नौन-सा वर्गीकरण सबसे सटीक रूप से दर्शाता है?

मानांतर; पियाजे: रचनात्मक खेल; वायगोत्स्की: स्व-निर्देशित निजी भाषण (Parten: Parallel; Piaget: Ilay; Vygotsky: Self-guided private speech)

कक; पियाजे: अभ्यास खेल; वायगोत्स्की: अन्य-विनियमन (Parten: Solitary; Piaget: Practice : Other-regulation)

ॉनलुकर; पियाजे: प्रतीकात्मक खेल; वायगोत्स्की: निजी भाषण ढांचा (Parten: Onlooker; Piaget: Vygotsky: Private speech scaffolding)

हकारी; पियाजे: नियमों के साथ खेल; वायगोत्स्की: निकटवर्ती विकास का क्षेत्र (Parten: Cooperative; : with rules; Vygotsky: Zone of proximal development)

Question ID : 4410091563118

Option 1 ID : 4410096174037

Option 2 ID : 4410096174035

Option 3 ID : 4410096174036

Option 4 ID : 4410096174038

न में NGO का प्राथमिक उद्देश्य क्या है?

शहरी क्षेत्रों में कार्य करते हैं

री स्वामित्व वाले संगठन हैं

विकास को बढ़ावा देते हैं

राजनीतिक गतिविधियों पर ध्यान केंद्रित करते हैं

Question ID : 4410091623427

Option 1 ID : 4410096412305

Option 2 ID : 4410096412306

Option 3 ID : 4410096412307

Option 4 ID : 4410096412304

Qual quality is foundational for an educator, seeking to establish an unbiased relationship, thereby preventing the unconscious types?

Empathy

Matter Mastery

sional Humour

ational Clarity

Question ID : 4410091558722

Option 1 ID : 4410096157282

Option 2 ID : 4410096157280

Option 3 ID : 4410096157283

Option 4 ID : 4410096157281

दालय की शिक्षिका आकलन तैयार कर रही है। वह इसमें collective nouns श्म सम्मिलित करना चाहती है। नीचे दिए गए वाक्यों में से कौन-सा, single ग्रथ करने वाले collective noun के लिए subject-verb agreement को ंत करता है?

am is winning the match.

am have winning the match.

am was winning the match.

am are winning the match.

Question ID : 4410091683632

Option 1 ID : 4410096641454

Option 2 ID : 4410096641456

Option 3 ID : 4410096641457

Option 4 ID : 4410096641455

के डिब्बों का उपयोग "कार" के रूप में करता है, अपने सहपाठियों को है, सरल यातायात नियम स्थापित करता है और सड़क व्यवस्था की देखरेख ढति क्या दर्शाती है?

सामाजिक सहभागिता के बिना होने वाले प्रतीकात्मक खेल

के प्रत्यक्ष मार्गदर्शन में किया जाने वाला कार्यात्मक खेल

मक खेल और नियमों के साथ प्रारंभिक खेल व्यवहार का एक संयुक्त रूप

ःक्रिया के बिना स्वतंत्र रूप से किया जाने वाला अन्वेषणात्मक खेल

Question ID : 4410091547005

Option 1 ID : 4410096110890

Option 2 ID : 4410096110892

Option 3 ID : 4410096110891

Option 4 ID : 4410096110893

al stimulus becomes associated with a response due to  
ing with a reward, this learning process is called:

it conditioning

: learning

nd error learning

cal conditioning

Question ID : 4410091548303

Option 1 ID : 4410096115925

Option 2 ID : 4410096115927

Option 3 ID : 4410096115928

Option 4 ID : 4410096115926

धि के पाठ में, एक बच्चा मेज को समान आकार की टाइलों से ढककर यह पता  
देता है कि मेज कितनी 'बड़ी' है। बच्चा सहज ज्ञान से किस गणितीय  
गू कर रहा है, और शिक्षक को इकाई की अवधारणा को प्रस्तुत करने के लिए इस  
े आगे बढ़ाना चाहिए?

त्रफल मापन का प्रयोग कर रहा है; शिक्षक को समान आकार की टाइलों को इकाई के रूप में उपयोग  
चाहिए

गई मापन का प्रयोग कर रहा है; शिक्षक को किनारों को मापने के लिए टेप का उपयोग करना चाहिए

यतन मापन का प्रयोग कर रहा है; शिक्षक को गहराई के लिए टाइलों को एक के ऊपर एक रखना

रंधि मापन का प्रयोग कर रहा है; शिक्षक को मेज के कोरों की गणना करनी चाहिए

Question ID : 4410091623778

Option 1 ID : 4410096413684

Option 2 ID : 4410096413687

Option 3 ID : 4410096413686

Option 4 ID : 4410096413685

1 considered a global language today?

ed solely for literature studies without practical applications

dely used in international communication, business, science, and education

ly spoken in England and has no relevance in other countries

ces all local languages in every country around the world

Question ID : 4410091544879

Option 1 ID : 4410096102576

Option 2 ID : 4410096102578

Option 3 ID : 4410096102577

Option 4 ID : 4410096102575

करने वाले टेलीविज़न विज्ञापनों के संबंध में एक प्रमुख चिंता यह है कि ये

- पारिरीक गतिविधि को बढ़ावा देते हैं
- य रूप से पोषण संबंधी जागरूकता में सुधार करते हैं
- तंतन कौशल विकसित करते हैं
- गदी मूल्यों और इच्छाओं को प्रोत्साहित करते हैं

Question ID : 4410091604480  
Option 1 ID : 4410096337091  
Option 2 ID : 4410096337092  
Option 3 ID : 4410096337093  
Option 4 ID : 4410096337090

को "नए सिरे से (from scratch)" डिज़ाइन करने का अभिप्राय क्या है?

- ष लक्ष्य निर्धारित करना और उन्हें पूरा करने के लिए विद्यालयी शिक्षा के सभी पहलुओं को पुनः डिज़ाइन
- वेद्यालयी व्यवस्था को अपरिवर्तित रखते हुए नई गतिविधियाँ शामिल करना
- रचनाओं को बदले बिना मानक पाठ्यक्रम मॉडलों का उपयोग करना
- विद्यालयी प्रथाओं को उनके उद्देश्य की समीक्षा किए बिना बनाए रखना

Question ID : 4410091547834  
Option 1 ID : 4410096114168  
Option 2 ID : 4410096114170  
Option 3 ID : 4410096114169  
Option 4 ID : 4410096114167

ual conference, each of the participating members, as well as  
e chairpersons, \_\_\_\_\_ expected to submit their reports by  
on to facilitate the audit process.

een

Question ID : 4410091623871  
Option 1 ID : 4410096414065  
Option 2 ID : 4410096414066  
Option 3 ID : 4410096414064  
Option 4 ID : 4410096414067

active attitude aligns with NEP vision for facilitators?

udent tasks minimizing interactions to deepen individual focus areas.

ating knowledge through peer dialogue and shared ownership models.

hical delegation assigning roles based on perceived ability ranks.

modeling demonstrating ideal responses for imitation by groups.

Question ID : 4410091563750

Option 1 ID : 4410096176571

Option 2 ID : 4410096176569

Option 3 ID : 4410096176572

Option 4 ID : 4410096176570

क्षक एक कक्षागत क्रियाकलाप तैयार कर रहा है जहाँ विद्यार्थियों को तरबूज में करने से पहले उनकी संख्या का आकलन करना होता है। यह कार्य प्राथमिक ढाने के किस उद्देश्य के साथ सबसे अधिक संरेखित है?

कार्य के प्रति अभिवृत्तिक विकास

और तर्क पर बल देने के साथ कौशल-निर्माण

याद रखने के माध्यम से ज्ञान अर्जन

खन क्षमताओं का मूल्यांकन

Question ID : 4410091629660

Option 1 ID : 4410096436728

Option 2 ID : 4410096436727

Option 3 ID : 4410096436726

Option 4 ID : 4410096436729

से कौन-सा मानव लैंगिक व्यवहार, सामाजिक अपेक्षाओं और मानदंडों में निहित रणा (social script) का अनुसरण करता है?

क उद्घोषणा (Interpersonal script)

ःद्घोषणा (Sexual script)

ःोषणा (Gender script)

सेक उद्घोषणा (Intrapsychic script)

Question ID : 4410091546969

Option 1 ID : 4410096110747

Option 2 ID : 4410096110746

Option 3 ID : 4410096110748

Option 4 ID : 4410096110749

मे कौन-सा, भारत में जेंडर भूमिकाओं को आकार देने वाले कारक का सबसे ता है?

क परंपराएँ और पारिवारिक मानदंड

नीतियाँ और कानून

परिस्थितियाँ और भूगोल

मान्यताएं और अनुष्ठान

Question ID : 4410091610972

Option 1 ID : 4410096362745

Option 2 ID : 4410096362744

Option 3 ID : 4410096362746

Option 4 ID : 4410096362743

Id successfully calculates  $35-27=8$  using column subtraction :  $14+23$  as 95. This performance disparity indicates a weakness in:

etic fact recall

ural algorithmic fluency

lic notation usage

tual understanding mastery

Question ID : 4410091550577

Option 1 ID : 4410096124768

Option 2 ID : 4410096124767

Option 3 ID : 4410096124770

Option 4 ID : 4410096124769

larly reviews students' academic progress, attendance, and opment to improve teaching practices. Which concept is best his practice?

ilum rigidity

istrative control

discipline

l effectiveness

Question ID : 4410091685553

Option 1 ID : 4410096649108

Option 2 ID : 4410096649109

Option 3 ID : 4410096649106

Option 4 ID : 4410096649107

मे कौन सा, निम्नतम लागत/निःशुल्क अधिगम सामग्री का स्रोत नहीं है?

- ढक्कन और गते जैसी पुनर्चक्रित वस्तुएँ
- गौर मिट्टी जैसी प्राकृतिक वस्तुएँ
- ने खरीदे गए महंगे विज्ञान किट
- गौर भोजन जैसी घरेलू वस्तुएँ

Question ID : 4410091572454  
Option 1 ID : 4410096210753  
Option 2 ID : 4410096210752  
Option 3 ID : 4410096210754  
Option 4 ID : 4410096210755

में विद्यालय लीडर की एक महत्वपूर्ण विशेषता निम्नलिखित में से कौन-सी है?

- गकरण को केवल वरिष्ठ स्टाफ तक सीमित रखना
- रस्यों के बीच सहभागिता को बढ़ावा देना
- बनाए रखने के लिए नए विचारों से बचना
- ाक्तिगत उपलब्धियों पर फोकस करना

Question ID : 4410091579585  
Option 1 ID : 4410096239652  
Option 2 ID : 4410096239650  
Option 3 ID : 4410096239651  
Option 4 ID : 4410096239649

मे कौन-सा सटीक रूप से दर्शाता है कि सामाजिक विज्ञान शिक्षा क्यों

- ात्मक चिंतन
- का पुनः स्मरण
- ना अभ्यास
- रा लेखन

Question ID : 4410091633675  
Option 1 ID : 4410096452792  
Option 2 ID : 4410096452790  
Option 3 ID : 4410096452793  
Option 4 ID : 4410096452791

में सूक्ष्म शिक्षण का मुख्य उद्देश्य क्या है?

- को नियंत्रित परिवेश में विशिष्ट कौशल का अभ्यास करने की सुविधा प्रदान करना
- ों के ज्ञान के परीक्षण करने के लिए छोटे अभ्यास और लिखित दत्तकार्य (assignments) का उपयोग
- ंधन से संबंधित प्रशासनिक कार्यों को कुशलतापूर्वक पूरा करना
- ों के लिए कक्षा में दिए जाने वाले सम्पूर्ण शिक्षण को पूर्व-अभिलिखित किए गए पाठों से बदलना

Question ID : 4410091548010  
Option 1 ID : 4410096114753  
Option 2 ID : 4410096114755  
Option 3 ID : 4410096114756  
Option 4 ID : 4410096114754

the first principle of interactive language teaching, who is responsible for language learning?

Curriculum designer

Teacher

Student

Textbook author

Question ID : 4410091635496

Option 1 ID : 4410096460005

Option 2 ID : 4410096460003

Option 3 ID : 4410096460004

Option 4 ID : 4410096460006

Open materials over purchased Teaching-Learning Material Model preparation primarily analyzes the promotion of:

Digitalized content delivery

Reduced material durability

Reduced cognitive complexity

Minimal commitment/ownership

Question ID : 4410091558817

Option 1 ID : 4410096157653

Option 2 ID : 4410096157656

Option 3 ID : 4410096157654

Option 4 ID : 4410096157655

के कौन-सा परिदृश्य, स्कूल प्रशासन में केंद्रीकृत, सोपानिक नियंत्रण के बजाय से सर्वोत्तम प्रकार से दर्शाता है?

मुख, निर्णय प्राधिकरण के साथ पाठ्यचर्या टीमों का नेतृत्व करते हैं

क कार्य सौंपे जाते हैं लेकिन निर्णय बनाए रखे जाते हैं

ख निर्णय केवल प्रिंसिपल के माध्यम से लिए जाते हैं

व्यक्तिगत रूप से समिति की प्रत्येक बैठक की अध्यक्षता करते हैं

Question ID : 4410091656828

Option 1 ID : 4410096542239

Option 2 ID : 4410096542237

Option 3 ID : 4410096542238

Option 4 ID : 4410096542240

ogy studies on TLM availability highlight low-cost/no-cost  
EVS skill domain beyond science lab equipment?

ok diagrams : Integrating purchased models, exceeding household material  
experimentation capabilities district-wide.

ntary science pedagogy: Utilizing household discards for observation, inference  
tation to foster process skill development holistically.

ced Lab Apparatus: Prioritizing Chemical Reactions Surpassing Household  
vation Protocols, T heme-Wise Quarterly.

ercial Science Kits:Focusing Data Analysis Silos Aligned with National Syllabus  
Beyond Elementary Process Skills—Annually.

Question ID : 4410091564099  
Option 1 ID : 4410096177996  
Option 2 ID : 4410096177993  
Option 3 ID : 4410096177994  
Option 4 ID : 4410096177995

ि की रूपरेखा (NCF 2005) के दिशानिर्देशों के अनुरूप, सामाजिक विज्ञान  
मुख्यतः \_\_\_\_\_ के रूप में कार्य करना चाहिए।

अधिगम संसाधन (Suggestive learning resource)

ात्मक दिशानिर्देश (Disciplinary guideline)

ज्ञान स्रोत (Mandatory knowledge source)

तु संग्रह (Content repository)

Question ID : 4410091551277  
Option 1 ID : 4410096127400  
Option 2 ID : 4410096127402  
Option 3 ID : 4410096127401  
Option 4 ID : 4410096127399

क का डिज़ाइन किस प्रकार से उसके लक्षित आयु वर्ग के अनुरूप होना चाहिए?

ल उच्च शिक्षा की पाठ्यपुस्तकों की नकल करनी चाहिए

ल प्राथमिक स्तर पर विकास के चरणों पर विचार करना चाहिए

तरह से उन्नत भाषा का उपयोग करना चाहिए

ार्थियों की आयु और विकास के स्तर से मेल खाना चाहिए

Question ID : 4410091659904  
Option 1 ID : 4410096553683  
Option 2 ID : 4410096553684  
Option 3 ID : 4410096553682  
Option 4 ID : 4410096553681

के कौन-से ICT संसाधन जटिल भाषायी अवधारणाओं को समझने में सहायक

ऑनलाइन डिक्शनरी और स्पेल-चेक टूल  
न, मल्टीमीडिया कंटेंट और वर्चुअल लैब  
ड्रैजिंग ऐप और डिस्कशन फ़ोरम  
सर और बेसिक टाइपिंग सॉफ्टवेयर

Question ID : 4410091572465  
Option 1 ID : 4410096210793  
Option 2 ID : 4410096210795  
Option 3 ID : 4410096210794  
Option 4 ID : 4410096210792

के कौन-सा उपागम, विविध कक्षागत व्यवस्था में समानता और न्याय दोनों को बढ़ावा देता है?

बहुसंख्यक सांस्कृतिक मानदंडों का अनुसरण करना  
मूह औसत से प्रगति का मापन करना  
गैरों की आवश्यकताओं के अनुसार शिक्षण को अनुकूलित करना  
गार्थियों के लिए समान आकलन का उपयोग करना

Question ID : 4410091624037  
Option 1 ID : 4410096414731  
Option 2 ID : 4410096414730  
Option 3 ID : 4410096414728  
Option 4 ID : 4410096414729

13 के लिए परिवार के सदस्यों का विशेषणों से वर्णन करने पर आधारित एक डा है। पाठ्यचर्या संरेखण का पालन करने के लिए, शिक्षक को सत्र की योजना बनाना चाहिए?

क्रियाकलाप को निर्धारित अधिगम परिणामों से जोड़ना चाहिए।  
से जुड़े बिना सामान्य लक्ष्यों की सूची बनानी चाहिए।  
की वरीयता के आधार पर क्रियाकलाप की योजना बनानी चाहिए।  
ठ्यपुस्तक के अभ्यासों पर ध्यान केंद्रित करना चाहिए।

Question ID : 4410091609039  
Option 1 ID : 4410096355072  
Option 2 ID : 4410096355073  
Option 3 ID : 4410096355075  
Option 4 ID : 4410096355074

अंग्रेजी में शिक्षण श्रवण कौशल के लिए, निम्नलिखित में से कौन-सा एक धन है?

थाएं और कविताएं

पर लिखी गई व्याख्याएं

फ़र्शीट

नियम चार्ट

Question ID : 4410091690241  
Option 1 ID : 4410096667243  
Option 2 ID : 4410096667245  
Option 3 ID : 4410096667242  
Option 4 ID : 4410096667244

भावों के अनुसार रचनात्मक लेखन मूल्यांकन में, प्राथमिक कक्षाओं में शिक्षक तथ-साथ सहपाठी सम्मेलन क्या भूमिका निभाते हैं?

चिंतन के बिना एकसमान ग्रेडिंग लागू करना

कर्ता को विभिन्न शैलियों से परिचित कराकर स्व-सुधार को बढ़ावा देना

मूल्यांकन को प्रतिस्थापित करके सम्पूर्ण रूप से कार्यभार में कमी

स्तु की समीक्षा किए बिना केवल यांत्रिक त्रुटियों पर ध्यान केंद्रित करना

Question ID : 4410091564482  
Option 1 ID : 4410096179508  
Option 2 ID : 4410096179506  
Option 3 ID : 4410096179505  
Option 4 ID : 4410096179507

student's ability to rationally justify complex policy decisions g:

recall questions

multiple-choice questions

structured-response items

non-referenced tests

Question ID : 4410091551070  
Option 1 ID : 4410096126523  
Option 2 ID : 4410096126524  
Option 3 ID : 4410096126525  
Option 4 ID : 4410096126526

ए पद्धति का उपयोग करने वाला एक शिक्षक, विद्यार्थियों को एक साहित्यिक करने और कर्मवाच्य (passive voice) के सभी दृष्टांतों की पहचान करने के क्रियाकलाप में किस दोहरे उद्देश्य को लक्षित किया जा रहा है?

सटीक अनुवाद का अभ्यास करते समय व्याकरणिक विश्लेषण कौशल को मजबूत करना

न जीवन की स्थितियों में शिक्षार्थियों की धाराप्रवाह और सहजता से बोलने की क्षमता विकसित करना

सांस्कृतिक पृष्ठभूमि और साहित्यिक संदर्भ की अर्थबोध को प्रोत्साहित करना

अभ्यास के माध्यम से विद्यार्थियों की बोलने की योग्यता (speaking ability) और उच्चारण में सुधार

Question ID : 4410091614160

Option 1 ID : 4410096375459

Option 2 ID : 4410096375460

Option 3 ID : 4410096375458

Option 4 ID : 4410096375457

एक अध्ययन की पाठ्यपुस्तक का मुख्य उद्देश्य क्या होता है?

क्षण और अधिगम गतिविधियों को पूरी तरह से प्रतिस्थापित करना

न संबंध में ज्ञान प्रदान करना और समझ विकसित करना

सी संबंध के केवल ऐतिहासिक तथ्यों को सिखाना

और वैज्ञानिक अवधारणाओं पर विशेष रूप से ध्यान केंद्रित करना

Question ID : 4410091551010

Option 1 ID : 4410096126291

Option 2 ID : 4410096126293

Option 3 ID : 4410096126294

Option 4 ID : 4410096126292

strong leadership, clear vision, and consistent evaluation  
uld most likely show which result in effectiveness  
t?

red student performance

red lunch breaks

school hours

ports trophies

Question ID : 4410091637194

Option 1 ID : 4410096466331

Option 2 ID : 4410096466332

Option 3 ID : 4410096466334

Option 4 ID : 4410096466333

the National Curriculum Framework (2005), what should be environmental studies at the primary level?

ages and mathematics

al education and art

matics and art

e and social science

Question ID : 4410091602445

Option 1 ID : 4410096329356

Option 2 ID : 4410096329357

Option 3 ID : 4410096329354

Option 4 ID : 4410096329355

guage function as a source of exclusion in schooling?

: textbooks include multilingual glossaries and examples

: teachers encourage classroom dialogue in multiple languages

instruction ignores students' home languages and linguistic backgrounds

: schools adopt flexible language support programmes

Question ID : 4410091603470

Option 1 ID : 4410096333077

Option 2 ID : 4410096333078

Option 3 ID : 4410096333076

Option 4 ID : 4410096333079

के अंतिम सप्ताह के दौरान, एक शिक्षक एक क्लोज़ (cloze) प्रक्रिया का  
ऋथा LSRW कौशलों में उनकी समय प्रवीणता का मूल्यांकन करने के लिए  
ॉडियो-टेप प्रस्तुतियों को एकत्र करता है। इन गतिविधियों का मुख्य उद्देश्य क्या

। रूप से अधिगम की कठिनाइयों की पहचान करना

अधिगम को प्रोत्साहित करना

लिए निरंतर प्रतिपुष्टि प्रदान करना

के प्रति उपलब्धि को मापना

Question ID : 4410091618921

Option 1 ID : 4410096394558

Option 2 ID : 4410096394559

Option 3 ID : 4410096394557

Option 4 ID : 4410096394556

के कौन-सा विकल्प, गणित के अधिगम में प्रतिरूपों की भूमिका का सटीक

- बच्चों को नियमों को समझे बिना ही याद रखने में सहायता करते हैं।
- पहचान, गणितीय समस्या-समाधान से असंबंधित होती है।
- केवल उच्च-स्तरीय गणित के लिए उपयोगी होते हैं।
- आधारित चिंतन, बच्चों को गणितीय तथ्यों की खोज करने में सहायता करती है।

Question ID : 4410091581902  
Option 1 ID : 4410096248845  
Option 2 ID : 4410096248848  
Option 3 ID : 4410096248847  
Option 4 ID : 4410096248846

के कौन-सी गतिविधि विज्ञान मेले या प्रदर्शनी की एक प्रमुख गतिविधि नहीं है?

- में आयोजित संगीत प्रस्तुति शो
- ों के लिए आयोजित विज्ञान प्रश्नोत्तरी प्रतियोगिताएँ
- र्ग, संगोष्ठी और कार्यशालाएँ
- ाद, अलंकृत भाषण और पेपर रीडिंग प्रतियोगिताएँ

Question ID : 4410091548341  
Option 1 ID : 4410096116076  
Option 2 ID : 4410096116074  
Option 3 ID : 4410096116073  
Option 4 ID : 4410096116075

में होने वाली चर्चाओं में जेंडर भेदभाव को दूर करके समावेशी शिक्षा को बढ़ावा  
नैन-सी रणनीति सबसे प्रभावी होगी?

- च्च उपलब्धि वाले विद्यार्थियों से ही प्रश्न पूछना
- असंबंधित विषयों पर फोकस करना
- ों को चर्चाओं में शामिल न होने का विकल्प देना
- ाद में सभी जेंडर की समान भागीदारी को प्रोत्साहित करना

Question ID : 4410091640499  
Option 1 ID : 4410096479195  
Option 2 ID : 4410096479197  
Option 3 ID : 4410096479198  
Option 4 ID : 4410096479196

जी का ऐसा पाठ तैयार करता है जिसमें विद्यार्थी एक कविता के संबंध में अपनी करते हैं और दूसरों की राय की सराहना करते हैं। यह अधिगम परिणाम मुख्य रूप से किस प्रक्षेत्र से संबंधित है?

अ क्षेत्र (Linguistic domain)

ब प्रक्षेत्र (Affective domain)

क प्रक्षेत्र (Cognitive domain)

द प्रक्षेत्र (Psychomotor domain)

Question ID : 4410091690782

Option 1 ID : 4410096669303

Option 2 ID : 4410096669301

Option 3 ID : 4410096669300

Option 4 ID : 4410096669302

र इको-क्लब की गतिविधियाँ विद्यालयों में विज्ञान को लोकप्रिय बनाने में किस से होते हैं?

अ परीक्षा की तैयारी पर फोकस करते हैं

ब जनाओं के माध्यम से सहभागिता को बढ़ावा देते हैं

क र्क की तुलना में व्यक्तिगत कार्य को प्राथमिकता देते हैं

द ःण जागरूकता को अपवर्जित करते हैं

Question ID : 4410091638999

Option 1 ID : 4410096473563

Option 2 ID : 4410096473561

Option 3 ID : 4410096473562

Option 4 ID : 4410096473564

सिकता/समयपूर्व मूल्यांकन (prejudiced mentality/premature) किस प्रकार श्रवण में बाधा उत्पन्न करता है?

अ देश को पूर्ण रूप से सुनने से पहले ही जज कर लेता है

ब ष्ट्र में सुधार करता है

क गानक ही विषय में परिवर्तन करता है

द ल भाषा का उपयोग करता है

Question ID : 4410091608820

Option 1 ID : 4410096354200

Option 2 ID : 4410096354202

Option 3 ID : 4410096354201

Option 4 ID : 4410096354203

दी उपागम (Constructivist approach) किस पर बल देता है?

- f जीवन के अनुप्रयोगों से बचना
- झे नियमों और प्रक्रियाओं का रटन
- द्वारा सभी उत्तर और प्रक्रियाएं प्रदान करना
- g के माध्यम से समझ का निर्माण

Question ID : 4410091553710  
Option 1 ID : 4410096137514  
Option 2 ID : 4410096137513  
Option 3 ID : 4410096137511  
Option 4 ID : 4410096137512

धिकारी नगरीय नवीकरण के लिए झुग्गीवासियों को जबरन नगर के बहिर्भाग में देते हैं। इसका उनके बच्चों पर अधिकतम अनुदेशात्मक प्रभाव यह पड़ता है कि \_\_\_ से वंचित हो जाते हैं।

- रिक रोजगार के अवसर
- प्रवसाय ज़िले
- गावासन सुविधाओं
- पूर्ण शैक्षिक संसाधन

Question ID : 4410091560084  
Option 1 ID : 4410096162461  
Option 2 ID : 4410096162459  
Option 3 ID : 4410096162458  
Option 4 ID : 4410096162460

मे कौन-सा, शैक्षिक उद्देश्यों से संबंधित ब्लूम के वर्गीकरण का सटीक वर्णन

- r रहित अनुदेशात्मक गतिविधियों की एक अव्यवस्थित सूची
- के उद्देश्यों को केवल संवेगों और अभिवृत्तियों के आधार पर वर्गीकृत करने वाली एक प्रणाली
- न और स्मृति पर केंद्रित एक-आयामी वर्गीकरण
- मक, भावात्मक और मनोप्रेरक क्षेत्रों में एक त्रि-आयामी वर्गीकरण

Question ID : 4410091581662  
Option 1 ID : 4410096247878  
Option 2 ID : 4410096247877  
Option 3 ID : 4410096247875  
Option 4 ID : 4410096247876

Science kits) किस आवश्यक शिक्षणशास्त्रीय पद्धति को सक्षम बनाकर छात्रों की कमी वाले विद्यालयों में महत्वपूर्ण आवश्यकता को पूरा करते हैं?

ठगपुस्तक दृष्टान्तों द्वारा अनुपूरित शिक्षक-नेतृत्व वाले व्याख्यान

शब्दावली को स्मरण करने पर केंद्रित समूह कंठस्थीकरण सत्र

के लिए केवल सैद्धांतिक प्रश्नों के साथ मानकीकृत परीक्षण

संरचना की आवश्यकता के बिना व्यावहारिक प्रयोग

Question ID : 4410091564664

Option 1 ID : 4410096180234

Option 2 ID : 4410096180235

Option 3 ID : 4410096180232

Option 4 ID : 4410096180233

विद्यार्थियों को संदर्भित करता है जिन्हें शारीरिक, संवेगात्मक या अधिगम के कारण अतिरिक्त सहायता की आवश्यकता होती है?

आवश्यकता वाले बच्चे

विद्यार्थी

शारीरिक अधिगमकर्ता

पलब्धि हासिल करने वाले

Question ID : 4410091633780

Option 1 ID : 4410096453211

Option 2 ID : 4410096453212

Option 3 ID : 4410096453210

Option 4 ID : 4410096453213

कौन-सा, विज्ञान शिक्षा में निगमनात्मक तर्क (Deductive Reasoning) करता है?

सामान्य सिद्धांत से प्रारंभ करना और उसे विशिष्ट मामलों पर लागू करना

ई निष्कर्ष निकाले परिणामों का अवलोकन करना

सिद्धांत बनाने के लिए विशिष्ट अवलोकनों से प्रारंभ करना

अनुभव के आधार पर परिणाम का अनुमान लगाना

Question ID : 4410091618564

Option 1 ID : 4410096393127

Option 2 ID : 4410096393130

Option 3 ID : 4410096393128

Option 4 ID : 4410096393129

शिक्षार्थियों को समरूपता प्रदर्शित करने वाली वस्तुओं के मॉडल बनाने का प्रोजेक्ट गणित और गणित का एकीकरण किया जाता है। इससे शिक्षा में गणित के किस पड़ता है?

क्रियात्मक अभ्यास

परिष्कार फोकस

वैकल्पिक तर्क

समस्या आधार

Question ID : 4410091609116

Option 1 ID : 4410096355382

Option 2 ID : 4410096355383

Option 3 ID : 4410096355381

Option 4 ID : 4410096355380

उत्तरदायी कक्षा प्रबंधन के अनुसार, निम्नलिखित में से कौन-सा विकल्प

सबसे अधिक अभ्यासों में विद्यार्थियों की सांस्कृतिक पहचान को महत्व देता है।

विद्यार्थियों के बीच सम्मानजनक संवाद को प्रोत्साहित करता है।

यह है कि एक निश्चित व्यवहार मॉडल सभी शिक्षार्थियों के लिए उपयुक्त है।

विद्यार्थियों के लिए समान दिनों को बढ़ावा देता है।

Question ID : 4410091548382

Option 1 ID : 4410096116233

Option 2 ID : 4410096116234

Option 3 ID : 4410096116232

Option 4 ID : 4410096116235

गणित प्रश्नों की प्रमुख विशेषता क्या है?

संख्या सिद्धांत शामिल होता है।

ए उन्नत गणितीय प्रशिक्षण की आवश्यकता होती है।

सुझावों में आसान होती हैं, लेकिन उत्तर देने में कठिन होती हैं।

निरंतर स्पष्ट होते हैं।

Question ID : 4410091633950

Option 1 ID : 4410096453892

Option 2 ID : 4410096453890

Option 3 ID : 4410096453891

Option 4 ID : 4410096453893

मे कौन-सा पहलू प्रायः विद्यालयों में जेंडर भूमिकाओं को बनाए रखता है?

- ल
- यूनिफॉर्म
- क्रेयाएं
- सभाएं

Question ID : 4410091635750  
Option 1 ID : 4410096460987  
Option 2 ID : 4410096460990  
Option 3 ID : 4410096460988  
Option 4 ID : 4410096460989

मे कौन-सा विद्यालयों में लड़के और लड़कियों के लिए समान अवसरों को बढ़ावा

- लड़कियों के लिए पृथक खेल के मैदान
- वेदनशील शिक्षण सामग्री
- इंटर-विशिष्ट पाठ्यपुस्तकें
- को कुछ विषयों से प्रतिबंधित करना

Question ID : 4410091551159  
Option 1 ID : 4410096126886  
Option 2 ID : 4410096126885  
Option 3 ID : 4410096126884  
Option 4 ID : 4410096126883

मे कौन-सा, भारतीय शिक्षा में अपवर्जन (exclusion) का उदाहरण है?

- पृष्ठभूमि के विद्यार्थियों को सहायता प्रदान करना
- विद्यार्थियों की सहायता करने के लिए विभिन्न शिक्षण विधियों का उपयोग करना
- बच्चों को प्रवेश देने से मना करना
- की उपेक्षा करते हुए सभी बच्चों को प्रवेश देना

Question ID : 4410091618661  
Option 1 ID : 4410096393517  
Option 2 ID : 4410096393518  
Option 3 ID : 4410096393515  
Option 4 ID : 4410096393516