



GOVT. OF NCT OF DELHI
Delhi Subordinate Services Selection Board
FC-18, Institutional Area, Karkardooma, Delhi – 110092.
www.dsssb.delhigovt.nic.in

Participant ID
Participant
Name

Test Center
Name

Aadarsh Pariksha Kendra CENTER B - Gate No 2 - Noida Sector 64
18/02/2026
1:00 PM - 3:00 PM
Assistant Teacher Primary

Intelligence and Reasoning Ability

के क्रम के आधार पर, निम्नलिखित चार अक्षर-समूह युग्मों में से तीन किसी समान हैं और इस प्रकार वे एक युग्म बनाते हैं। निम्नलिखित में से कौन-सा युग्म, उस युग्म से संबंधित नहीं है? (अक्षर-समूह युग्म, व्यंजनों/स्वरों की संख्या या उनकी स्थिति पर आधारित नहीं है।)

- T
S
Q
H

Question ID : 441009811354
Option 1 ID : 4410093199540
Option 2 ID : 4410093199542
Option 3 ID : 4410093199539
Option 4 ID : 4410093199541

'÷' है, 'B' का अर्थ 'x' है, 'C' का अर्थ '+' है और 'D' का अर्थ '-' है, तो निम्नलिखित में प्रश्न-चिह्न '?' के स्थान पर क्या आएगा?

3 B 4 D 125 = ?

Question ID : 441009553718
Option 1 ID : 4410092170188
Option 2 ID : 4410092170189
Option 3 ID : 4410092170186
Option 4 ID : 4410092170187

Adda247

Test Prime

ALL EXAMS, ONE SUBSCRIPTION



1,00,000+
Mock Tests



**Personalised
Report Card**



**Unlimited
Re-Attempt**



600+
Exam Covered



25,000+ Previous
Year Papers



500%
Refund



ATTEMPT FREE MOCK NOW

I, G का भाई है। W, Z का पिता है। Z, G का पुत्र है। Z का F से क्या संबंध है?

पुत्र

पति

Question ID : 4410091614492

Option 1 ID : 4410096376786

Option 2 ID : 4410096376788

Option 3 ID : 4410096376787

Option 4 ID : 4410096376785

भाषा में, 'WIFE' को '6957' के रूप में कूटबद्ध किया जाता है और 'FLEW' को '1' कूटबद्ध किया जाता है। दी गई कूट भाषा में 'L' के लिए कूट क्या है?

Question ID : 4410091614528

Option 1 ID : 4410096376925

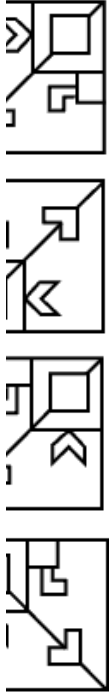
Option 2 ID : 4410096376927

Option 3 ID : 4410096376926

Option 4 ID : 4410096376928



चयन करें जिसमें दी गई आकृति उसके भाग के रूप में अंतर्निहित है (आकृति को
ति नहीं है)।



Question ID : 4410091524706

Option 1 ID : 4410096022031

Option 2 ID : 4410096022033

Option 3 ID : 4410096022034

Option 4 ID : 4410096022032

कों में, प्रत्येक अक्षर-समूह एक निश्चित तर्क का अनुसरण करते हुए, अगले समूह
ए गए विकल्पों में से उस विकल्प का चयन कीजिए जो समान तर्क का अनुसरण

⌈ - WLKA
SITL

VNAS - SNAV

-UBSH - BSHU

·POTS - SPT O

·ENAR - EARN

Question ID : 441009767181

Option 1 ID : 4410093022718

Option 2 ID : 4410093022717

Option 3 ID : 4410093022719

Option 4 ID : 4410093022720

और S एक ही इमारत के छह अलग-अलग तलों पर रहते हैं। इमारत के सबसे निचले तल से ऊपर वाले तल का क्रमांक 2 है, और इसी प्रकार ऊपर वाले तल का क्रमांक 6 है। वे तल पर रहता है। Q और L के बीच केवल तीन व्यक्ति रहते हैं। T, L से नीचे वाले U एक सम क्रमांक वाले तल पर रहता है। I एक विषम क्रमांक वाले तल पर रहता है, 5 पर नहीं। S और L के बीच कितने व्यक्ति रहते हैं?

Question ID : 4410091518882

Option 1 ID : 4410095998804

Option 2 ID : 4410095998805

Option 3 ID : 4410095998803

Option 4 ID : 4410095998802

और M में से प्रत्येक की परीक्षा सोमवार से शुरू होकर रविवार को समाप्त होने तक के अलग-अलग दिन है। F की परीक्षा शुक्रवार को होती है। K और F के बीच दो परीक्षा होती है। E और K के बीच केवल चार लोगों की परीक्षा होती है। L की 5 बाद होती है। I की परीक्षा सोमवार को नहीं होती है। I और M के बीच कितने होती है?

Question ID : 441009216459

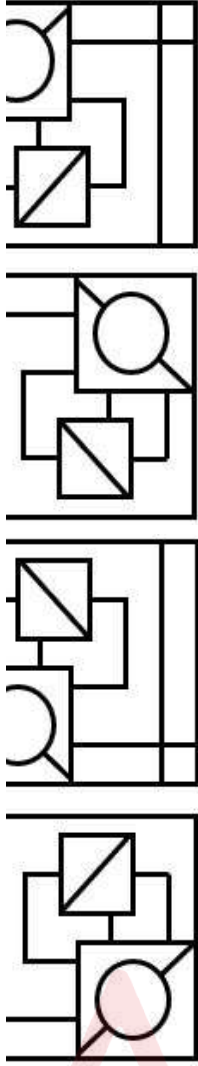
Option 1 ID : 441009849878

Option 2 ID : 441009849876

Option 3 ID : 441009849875

Option 4 ID : 441009849877

अन्यन कीजिए जिसमें दी गई आकृति अंतर्निहित है (आकृति को घुमाने की



Question ID : 441009906466
Option 1 ID : 4410093579675
Option 2 ID : 4410093579673
Option 3 ID : 4410093579674
Option 4 ID : 4410093579672

1) तार्किक रूप से पूर्ण बनाने के लिए, प्रश्न-चिह्न (?) को निम्नलिखित में से किस [ह] द्वारा प्रतिस्थापित किया जाना चाहिए?

, NEC50, SJH66, ?

!

?

2

Question ID : 4410091614449

Option 1 ID : 4410096376616

Option 2 ID : 4410096376615

Option 3 ID : 4410096376614

Option 4 ID : 4410096376613

को परस्पर बदल दिया जाए तथा 'x' और '÷' को परस्पर बदल दिया जाए, तो क्रम में '?' के स्थान पर क्या आएगा?

- 2 = ?

Question ID : 4410091609144

Option 1 ID : 4410096355493

Option 2 ID : 4410096355492

Option 3 ID : 4410096355494

Option 4 ID : 4410096355495

1) दो समुच्चय दिए गए हैं। प्रत्येक संख्याओं के समुच्चय में, पहली संख्या पर एक संक्रिया करने पर दूसरी संख्या प्राप्त होती है। इसी प्रकार, दूसरी संख्या पर एक संक्रिया करने पर तीसरी संख्या प्राप्त होती है, इसी प्रकार आगे भी संख्याएँ दिए गए विकल्पों में से कौन-सा विकल्प, दिए गए समुच्चयों में प्रयुक्त समान 'का अनुसरण करता है?

अंकीय संख्या को संक्रियाओं के लिए उनके घटक अंकों में नहीं तोड़ा जा सकता है, यदि 37 के बाद 10 आता है, तो संक्रिया 3+7 नहीं हो सकती है क्योंकि दो अलग-अलग अंकों में नहीं तोड़ा जा सकता है।)

- 436

156

4 - 770 - 772

0 - 600 - 602

5 - 375 - 378

10 - 280 - 282

Question ID : 441009528749

Option 1 ID : 4410092070403

Option 2 ID : 4410092070401

Option 3 ID : 4410092070402

Option 4 ID : 4410092070400

द में प्रत्येक स्वर को अंग्रेजी वर्णमाला क्रम में उसके ठीक बाद वाले अक्षर से है और प्रत्येक व्यंजन को अंग्रेजी वर्णमाला क्रम में उसके ठीक पहले वाले अक्षर से अक्षर से बदल दिया जाता है। इस प्रकार बने अक्षरों के नए समूह में कितने र दिखाई देंगे?

Question ID : 441009216469
Option 1 ID : 441009849918
Option 2 ID : 441009849917
Option 3 ID : 441009849915
Option 4 ID : 441009849916

भमुख होकर बैठी 63 छात्राओं की एक पंक्ति में, आश्रा दाहिने छोर से 22वें ; सोना, आश्रा के बाईं ओर 28वें स्थान पर है, तो पंक्ति के बाएं छोर से सोना का गेगा?

Question ID : 4410091518824
Option 1 ID : 4410095998575
Option 2 ID : 4410095998574
Option 3 ID : 4410095998576
Option 4 ID : 4410095998577

, E, F, G, H और I एक सीधी पंक्ति में उत्तर दिशा की ओर अभिमुख होकर बैठे र पांचवें स्थान पर बैठा है। C, H के बाईं ओर पांचवें स्थान पर बैठा है। F के दाईं यक्ति बैठे हैं। H, F के दाईं ओर दूसरे स्थान पर बैठा है। E, H के बाईं ओर तीसरे । D के दाईं ओर तीसरे स्थान पर कौन बैठा है?

Question ID : 441009148043
Option 1 ID : 441009588042
Option 2 ID : 441009588041
Option 3 ID : 441009588043
Option 4 ID : 441009588044

क्रम के आधार पर, निम्नलिखित चार अक्षर-समूहों में से तीन एक निश्चित तरीके और इस प्रकार वे एक ग्रुप बनाते हैं। कौन-सा अक्षर-समूह उस ग्रुप से संबंधित

अक्षर-समूह, उसमें व्यंजनों/स्वरों की संख्या या उनकी स्थिति पर आधारित नहीं

Question ID : 441009782235
Option 1 ID : 4410093082944
Option 2 ID : 4410093082943
Option 3 ID : 4410093082945
Option 4 ID : 4410093082946

अक्षर और प्रतीक शृंखला का संदर्भ लें और नीचे दिए गए प्रश्न का उत्तर दें। गिनती रूँ की जानी है।

? * 5 1 & \$? ^ + % \$? ^ % 1 & (दाएँ)

न हैं, जिनमें से प्रत्येक के ठीक पहले एक अन्य प्रतीक और ठीक बाद एक संख्या

नहीं

Question ID : 441009788249
Option 1 ID : 4410093106995
Option 2 ID : 4410093106996
Option 3 ID : 4410093106997
Option 4 ID : 4410093106998

शब्द में प्रत्येक स्वर को अंग्रेजी वर्णमाला क्रम में उसके ठीक बाद वाले अक्षर से है और प्रत्येक व्यंजन को अंग्रेजी वर्णमाला क्रम में उसके ठीक पहले वाले अक्षर से अक्षर से बदल दिया जाता है। निम्नलिखित में से कौन सा अक्षर इस प्रकार समूह में ठीक दो बार दिखाई देगा?

Question ID : 441009216463
Option 1 ID : 441009849894
Option 2 ID : 441009849892
Option 3 ID : 441009849893
Option 4 ID : 441009849891

भर और प्रतीक श्रृंखला का संदर्भ लीजिए और प्रश्न का उत्तर दीजिए। गिनती
 की जानी है।
 : @ M & Q L L * I V & L # E Z * & E (दाएँ)
 : हैं, जिनमें से प्रत्येक के ठीक पहले एक अक्षर और ठीक बाद में एक प्रतीक है?

Question ID : 441009794574
 Option 1 ID : 4410093132298
 Option 2 ID : 4410093132296
 Option 3 ID : 4410093132297
 Option 4 ID : 4410093132295

'?' के स्थान पर क्या आएगा?

? 513

Question ID : 4410091528138
 Option 1 ID : 4410096035745
 Option 2 ID : 4410096035748
 Option 3 ID : 4410096035747
 Option 4 ID : 4410096035746

rareness

ग्रेस (MWC), 2025 का आयोजन कब हुआ था?

फरवरी, 2025

मार्च, 2025

अप्रैल, 2025

जनवरी, 2025

Question ID : 441009283013
 Option 1 ID : 4410091099206
 Option 2 ID : 4410091099207
 Option 3 ID : 4410091099209
 Option 4 ID : 4410091099208

ने गई डिजिटल इंडिया पहल का प्रमुख उद्देश्य क्या है?

- i. पलब्ध ऑनलाइन सेवाओं की संख्या का न्यूनीकरण करना
 ii. डिजिटल रूप से सशक्त समाज और अर्थव्यवस्था में रूपांतरण करना
 iii. अर्ध-शहरी क्षेत्रों में व्यापक इंटरनेट सुविधा की व्यवस्था करना
 iv. मुदायों में पारंपरिक कृषि पद्धतियों को प्रोत्साहित करना

Question ID : 441009672131
 Option 1 ID : 4410092642621
 Option 2 ID : 4410092642619
 Option 3 ID : 4410092642620
 Option 4 ID : 4410092642618

र्वश्रेष्ठ मुख्य भूमिका (महिला) का पुरस्कार किसने जीता?

- i. गेयल (Nitanshi Goel)
 ii. भट्ट (Alia Bhatt)
 iii. िटा (Pratibha Ranta)
 iv. बोदीवाला (Janki Bodiwala)

Question ID : 441009246545
 Option 1 ID : 441009960495
 Option 2 ID : 441009960497
 Option 3 ID : 441009960494
 Option 4 ID : 441009960496

य नीति निर्देशक सिद्धांतों (DPSP) को उनके अनुच्छेदों से सुमेलित कीजिये।

- i. काम करने, शिक्षा प्राप्त करने और सार्वजनिक सहायता प्राप्त करने का
 उच्छेद 48
 ii. मालन संगठन ii. अनुच्छेद 41
 iii. िए जीवन निर्वाह वेतन आदि। iii. अनुच्छेद 43
 iv. ति और सुरक्षा को बढ़ावा देना iv. अनुच्छेद 51
 i, C-iii, D-iv
 i, C-ii, D-iv
 i, C-ii, D-iv
 i, C-iii, D-iv

Question ID : 441009397417
 Option 1 ID : 4410091555114
 Option 2 ID : 4410091555115
 Option 3 ID : 4410091555113
 Option 4 ID : 4410091555112

में मुहम्मद गोरी की मृत्यु के बाद, भारतीय क्षेत्रों पर उसके आधिपत्य को
ने किस शासक को सौंपा गया था?

न खिलजी

श

न ऐबक

Question ID : 4410091551345

Option 1 ID : 4410096127709

Option 2 ID : 4410096127710

Option 3 ID : 4410096127708

Option 4 ID : 4410096127707

5 को टोक्यो विश्व चैंपियनशिप में महिलाओं की 400 मीटर रेस को 47.78
समय में पूरा कर किसने इतिहास रच दिया?

कलॉथलिन-लेवरोन

लियम्स

वरातिलोवा

होमानेसी

Question ID : 4410091330737

Option 1 ID : 4410095254554

Option 2 ID : 4410095254555

Option 3 ID : 4410095254556

Option 4 ID : 4410095254557

गेर्ड के अनुसार, 2020-21 में कॉफी का सबसे बड़ा आयातक देश कौन-सा था?

र

Question ID : 441009637922

Option 1 ID : 4410092505832

Option 2 ID : 4410092505834

Option 3 ID : 4410092505831

Option 4 ID : 4410092505833

स के संदर्भ में कौन-सा सिद्धांत सभी के लिए समान अवसर सुनिश्चित करता है?

रण

ता

यता

Question ID : 441009626411

Option 1 ID : 4410092459799

Option 2 ID : 4410092459798

Option 3 ID : 4410092459796

Option 4 ID : 4410092459797

से कौन-सा विवृत तंत्र का उदाहरण है?

ढक्कन वाला एक थर्मस फ्लास्क

में रखी गर्म कॉफी

एक बंद बोतल

प्रेसर कुकर

Question ID : 441009513500

Option 1 ID : 4410092009045

Option 2 ID : 4410092009046

Option 3 ID : 4410092009047

Option 4 ID : 4410092009044

का लोक संगीत है?

ा

प्रदेश

Question ID : 441009222630

Option 1 ID : 441009872359

Option 2 ID : 441009872362

Option 3 ID : 441009872360

Option 4 ID : 441009872361

को सुरेंद्रनाथ बनर्जी ने आनंद मोहन बोस के साथ मिलकर कोलकाता में
से किस राजनीतिक संगठन की स्थापना की?

यटिक एसोसिएशन

एसोसिएशन

राष्ट्रीय कांग्रेस

जनीतिक समाज

Question ID : 4410091551293

Option 1 ID : 4410096127490

Option 2 ID : 4410096127487

Option 3 ID : 4410096127488

Option 4 ID : 4410096127489

0 से 103 तक के तत्वों को _____ के रूप में वर्गीकृत किया जाता है।

ड

तु

तत्व

यड

Question ID : 441009513397

Option 1 ID : 4410092008640

Option 2 ID : 4410092008643

Option 3 ID : 4410092008641

Option 4 ID : 4410092008642

घाटों के संबंध में निम्नलिखित में से कौन-सा कथन सही नहीं है?

- असतत, अनियमित और नदियों द्वारा विच्छेदित है
 ः, पश्चिमी घाट की तुलना में उच्चता में अधिक हैं
 ाट की औसत उच्चता 900-1600 मीटर है
 , महानदी घाटी से लेकर नीलगिरी तक विस्तृत है

Question ID : 441009321495
 Option 1 ID : 4410091252236
 Option 2 ID : 4410091252233
 Option 3 ID : 4410091252234
 Option 4 ID : 4410091252235

को मनाया गया राष्ट्रीय शिक्षा दिवस, _____ की जयंती के सम्मान में

- । टैगोर
 राधाकृष्णन
 अबुल कलाम आज़ाद
 । अब्दुल कलाम

Question ID : 4410091564732
 Option 1 ID : 4410096180499
 Option 2 ID : 4410096180502
 Option 3 ID : 4410096180501
 Option 4 ID : 4410096180500

से किस नेता को उत्तर-पश्चिम सीमांत प्रांत में शांति और हिंदू-मुस्लिम एकता को
 ासों के लिए 'सीमांत गांधी (Frontier Gandhi)' के रूप में जाना जाता था?

- द्र बोस (Subhas Chandra Bose)
 ल्लभभाई पटेल (Sardar Vallabhbhai Patel)
 दुल गफ्फार खान (Khan Abdul Ghaffar Khan)
 म्बुल कलाम आज़ाद (Maulana Abul Kalam Azad)

Question ID : 4410091217906
 Option 1 ID : 4410094805042
 Option 2 ID : 4410094805043
 Option 3 ID : 4410094805041
 Option 4 ID : 4410094805040

। के लिए भुगतान संतुलन में चालू खाता अधिशेष क्या दर्शाता है?

- ; वस्तुओं और सेवाओं का आयात, निर्यात से अधिक कर रहा है।
 शों से भारी ऋण लेने को इंगित करता है।
 शों से कम ऋण लेने को इंगित करता है।
 ।, वस्तुओं और सेवाओं का निर्यात, आयात से अधिक कर रहा है।

Question ID : 441009628808
 Option 1 ID : 4410092469384
 Option 2 ID : 4410092469386
 Option 3 ID : 4410092469387
 Option 4 ID : 4410092469385

वार्षिक पुस्तिका 2023 के अनुसार, निम्नलिखित में से कौन-सा भारतीय राज्य
सबसे बड़ा उत्पादक है?

श

Question ID : 4410091457546
Option 1 ID : 4410095758494
Option 2 ID : 4410095758495
Option 3 ID : 4410095758492
Option 4 ID : 4410095758493

से कौन-सी श्रेणी, उन चार श्रेणियों में से एक नहीं है जिनके अंतर्गत राज्य के
सिद्धांतों को वर्गीकृत किया गया है?

क विरासत सिद्धांत

ग शांति और सुरक्षा से संबंधित सिद्धांत और नीतियाँ

घ सिद्धांत

और सामाजिक सिद्धांत

Question ID : 441009671640
Option 1 ID : 4410092640646
Option 2 ID : 4410092640647
Option 3 ID : 4410092640645
Option 4 ID : 4410092640644

घ) हिंदुस्तानी शास्त्रीय संगीत की एक शैली है जो किस देवता और त्योहार से

र दिवाली

नवरात्रि

मेर होली

ः महाशिवरात्रि

Question ID : 441009275799
Option 1 ID : 4410091071370
Option 2 ID : 4410091071367
Option 3 ID : 4410091071369
Option 4 ID : 4410091071368

लॉन्च करने के लिए ISRO, निम्नलिखित परीक्षात्मक रूप से नामित मिशनों में से
तो लॉन्च करने की योजना बना रहा है?

- 1
- 2
- 3
- L-1

Question ID : 441009164549
Option 1 ID : 441009651819
Option 2 ID : 441009651820
Option 3 ID : 441009651817
Option 4 ID : 441009651818

Reasoning and Numerical Ability

एक मशीन के अंकित मूल्य पर 20% की व्यापारिक छूट प्रदान करता है। एक खुदरा
विक्रेता यह मशीन तुरंत भुगतान करता है तो उसे छूट प्राप्त मूल्य पर 5%
छूट प्राप्त होती है। यदि अंकित मूल्य ₹10,000 है, तो खुदरा विक्रेता द्वारा
प्राप्त की जाने वाली अंतिम धनराशि ज्ञात कीजिए।

1

Question ID : 4410091546492
Option 1 ID : 4410096108851
Option 2 ID : 4410096108852
Option 3 ID : 4410096108853
Option 4 ID : 4410096108854

एक त्रिभुज का क्षेत्रफल 292 cm^2 है। यदि त्रिभुज की लंबाई और चौड़ाई क्रमशः 8 cm
है, तो इसकी ऊँचाई ज्ञात कीजिए।

Adda247

Question ID : 441009125595
Option 1 ID : 441009499226
Option 2 ID : 441009499223
Option 3 ID : 441009499224
Option 4 ID : 441009499225

धंगले पर रखे शंकु के आकार का है जिसमें दोनों की त्रिज्याएँ 1 cm के बराबर हैं
आई उसकी त्रिज्या के बराबर है। π के संदर्भ में ठोस का आयतन कितना होगा?

}

}

}

Question ID : 441009621323
Option 1 ID : 4410092439426
Option 2 ID : 4410092439427
Option 3 ID : 4410092439425
Option 4 ID : 4410092439424

ख्या 16131p13, 9 से विभाज्य है, तो p का न्यूनतम मान ज्ञात कीजिए।

Question ID : 441009237920
Option 1 ID : 441009930049
Option 2 ID : 441009930050
Option 3 ID : 441009930051
Option 4 ID : 441009930048

संख्या 1,80,000 थी। पहले वर्ष में इसमें 15% की वृद्धि हुई और दूसरे वर्ष में
ई। दो वर्ष के बाद इसकी जनसंख्या कितनी होगी?

30

00

30

30

Question ID : 441009194533
Option 1 ID : 441009766082
Option 2 ID : 441009766079
Option 3 ID : 441009766080
Option 4 ID : 441009766081

प्रत्येक की लंबाई 162 m है, विपरीत दिशाओं में चलते हुए, 12 सेकंड में एक-
ती हैं। यदि एक ट्रेन, दूसरी से दोगुनी चाल से चल रही है, तो तेज ट्रेन की चाल

n/hr

m/hr

n/hr

n/hr

Question ID : 441009125500

Option 1 ID : 441009498844

Option 2 ID : 441009498845

Option 3 ID : 441009498846

Option 4 ID : 441009498843

त्र गतिविधियों और इसमें भाग लेने वाले विद्यार्थियों की संख्या दी गई है:

	खेल	संगीत	कला	साइंस
द्वारा	45	30	25	40

दोनों गतिविधियों में मिलाकर कितने विद्यार्थियों ने भाग लिया?

Question ID : 4410091528792

Option 1 ID : 4410096038311

Option 2 ID : 4410096038312

Option 3 ID : 4410096038314

Option 4 ID : 4410096038313

र 51 cm ऊंचाई वाले एक शंकु को पिघलाकर 17 cm ऊंचाई का एक बेलन
बेलन का व्यास (cm में) ज्ञात कीजिए।

Question ID : 441009620992

Option 1 ID : 4410092438102

Option 2 ID : 4410092438103

Option 3 ID : 4410092438101

Option 4 ID : 4410092438100

योगफल 576 है। उनका औसत ज्ञात कीजिए।

Question ID : 441009581978
Option 1 ID : 4410092283039
Option 2 ID : 4410092283038
Option 3 ID : 4410092283041
Option 4 ID : 4410092283040

5 छात्रों ने भौतिक विज्ञान की परीक्षा दी। 17 छात्रों का औसत अंक 70 था। औसत अंक 74 था। पूरी कक्षा का औसत अंक (एक दशमलव स्थान तक कीजिए।

Question ID : 441009539444
Option 1 ID : 4410092113173
Option 2 ID : 4410092113174
Option 3 ID : 4410092113172
Option 4 ID : 4410092113175

- प्रमोद और आशीष हैं। 16 वर्षीय प्रमोद को मोहन की संपत्ति से कुछ धनराशि र 17 वर्षीय आशीष को शेष धनराशि प्राप्त होती है। लेकिन प्रमोद और आशीष भी प्राप्त होगी जब वे 25 वर्ष के हो जाएंगे। तब तक ये धनराशि बैंक में रहेगी, [र्षिक ब्याज की दर से ब्याज प्राप्त होगा, जहाँ ब्याज वार्षिक रूप से संयोजित 10 25 वर्ष के हो जाते हैं, तो उन्हें समान धनराशि प्राप्त होती है। यदि मोहन के 00 थे, तो प्रारंभ में मोहन ने आशीष को कितनी धनराशि (₹ में) दी थी?

Question ID : 441009573215
Option 1 ID : 4410092247983
Option 2 ID : 4410092247980
Option 3 ID : 4410092247981
Option 4 ID : 4410092247982

को क्रमशः 3 घंटे और 32 घंटे में भर सकते हैं। तीसरा नल उसे 3 घंटे में खाली दि सभी नल एक साथ खोल दिए जाएं, तो खाली टंकी का तीन-चौथाई भाग भरने (घंटों में) लगेगा?

Question ID : 441009897239
Option 1 ID : 4410093543026
Option 2 ID : 4410093543029
Option 3 ID : 4410093543028
Option 4 ID : 4410093543027

3,000 में एक पुरानी बाइक खरीदी, उसकी मरम्मत पर ₹2,000 व्यय किए और बेच दिया। पूरे लेन-देन पर लाभ प्रतिशत ज्ञात कीजिए।

Question ID : 4410091622225
Option 1 ID : 4410096407690
Option 2 ID : 4410096407689
Option 3 ID : 4410096407691
Option 4 ID : 4410096407688

2 : 13 के अनुपात में हैं और उनका LCM, 6318 है। उनका HCF ज्ञात कीजिए।

Question ID : 441009525728
Option 1 ID : 4410092058334
Option 2 ID : 4410092058333
Option 3 ID : 4410092058331
Option 4 ID : 4410092058332

7 m लंबी दो रेलगाड़ी समान दिशा में क्रमशः 25 m/s और 37 m/s की चाल से दूसरे से मिलने के कितने समय (सेकंड में) बाद एक-दूसरे को पूर्णतः पार कर

Question ID : 4410098897
Option 1 ID : 44100935342
Option 2 ID : 44100935341
Option 3 ID : 44100935343
Option 4 ID : 44100935340

1 एक साथ कार्य करके किसी परियोजना को 60 दिनों में पूरा कर सकती हैं। उसी परियोजना को 80 दिनों में पूरा कर सकती हैं तथा सीना और मनीषा उसी 8 दिनों में पूरा कर सकती हैं। तीनों मिलकर उसी परियोजना को कितने दिनों में

Question ID : 44100947182
Option 1 ID : 441009187818
Option 2 ID : 441009187820
Option 3 ID : 441009187819
Option 4 ID : 441009187817

तु खरीदी और उसके मरम्मत व्यय के रूप में ₹97 खर्च किए। इसके बाद, उसने % के लाभ पर बेच दिया। अंततः, भरत ने वस्तु को ₹3,133 में बेच दिया, जिससे ने हुई। आनंद के लिए वस्तु का कुल लागत मूल्य (₹ में) कितना था?

Question ID : 441009894680
Option 1 ID : 4410093532793
Option 2 ID : 4410093532792
Option 3 ID : 4410093532791
Option 4 ID : 4410093532790

3 : 5 के अनुपात में हैं। यदि पहली और तीसरी संख्या का योग दूसरी संख्या से दो तीनों संख्याओं का योग ज्ञात कीजिए।

Question ID : 4410099356
Option 1 ID : 44100937205
Option 2 ID : 44100937206
Option 3 ID : 44100937204
Option 4 ID : 44100937203

वसाय शुरू करते हैं। M, 7 माह की अवधि के लिए N से ₹89,000 अधिक जबकि N, 5 महीने की अवधि के लिए निवेश करता है। ₹3,175 के कुल लाभ में N के हिस्से से ₹635 अधिक है। M द्वारा निवेश की गई राशि ज्ञात कीजिए।

000

150

315

337

Question ID : 441009899589
Option 1 ID : 4410093552426
Option 2 ID : 4410093552429
Option 3 ID : 4410093552428
Option 4 ID : 4410093552427

पर 2 वर्षों में 4% वार्षिक ब्याज दर से साधारण ब्याज के रूप में ₹1680 प्राप्त

Question ID : 441009852631
Option 1 ID : 4410093363498
Option 2 ID : 4410093363496
Option 3 ID : 4410093363497
Option 4 ID : 4410093363499

tion that can be used as a one-word substitute for the given is.

likes women in particular

gist

rdle

amist

ynist

Question ID : 441009352165
Option 1 ID : 4410091375011
Option 2 ID : 4410091375013
Option 3 ID : 4410091375010
Option 4 ID : 4410091375012

misspelt word in the following sentence.

stance and diligence in his research eventually led to a in the field.

tance

rough

ce

ally

Question ID : 4410091048223
Option 1 ID : 4410094141923
Option 2 ID : 4410094141926
Option 3 ID : 4410094141924
Option 4 ID : 4410094141925

ce 'Arun decided to face the music after making the mistake', underlined idiom with the option that conveys a similar meaning.

celebrating

nt the consequences

all responsibility

: the situation

Question ID : 4410091028033
Option 1 ID : 4410094063751
Option 2 ID : 4410094063752
Option 3 ID : 4410094063753
Option 4 ID : 4410094063754

article that correctly completes the sentence.

st student in the class.

cle

Question ID : 4410091673262
Option 1 ID : 4410096602994
Option 2 ID : 4410096602995
Option 3 ID : 4410096602996
Option 4 ID : 4410096602997

uestion, a statement divided into different segments is given.
the segments to form a coherent statement.

ltures, rituals mark transitions in life
g values through symbolic acts
iforce communal bonds and shared identity
ibining myth, music, and movement

Question ID : 4410091518721
Option 1 ID : 4410095998164
Option 2 ID : 4410095998162
Option 3 ID : 4410095998165
Option 4 ID : 4410095998163

ost appropriate ANTONYM of the highlighted word in the given

or admonished the students for plagiarising their essay
from the internet.

anded

sed

ied

d

Question ID : 441009406012
Option 1 ID : 4410091589438
Option 2 ID : 4410091589439
Option 3 ID : 4410091589441
Option 4 ID : 4410091589440

Option that best completes the sentence using an appropriate

id a _____ ending that made everyone smile.

itful

|

Question ID : 4410091122847
Option 1 ID : 4410094426949
Option 2 ID : 4410094426952
Option 3 ID : 4410094426950
Option 4 ID : 4410094426951

: following sentence with correct articles.

: no good. You need _____ pen to write neatly.

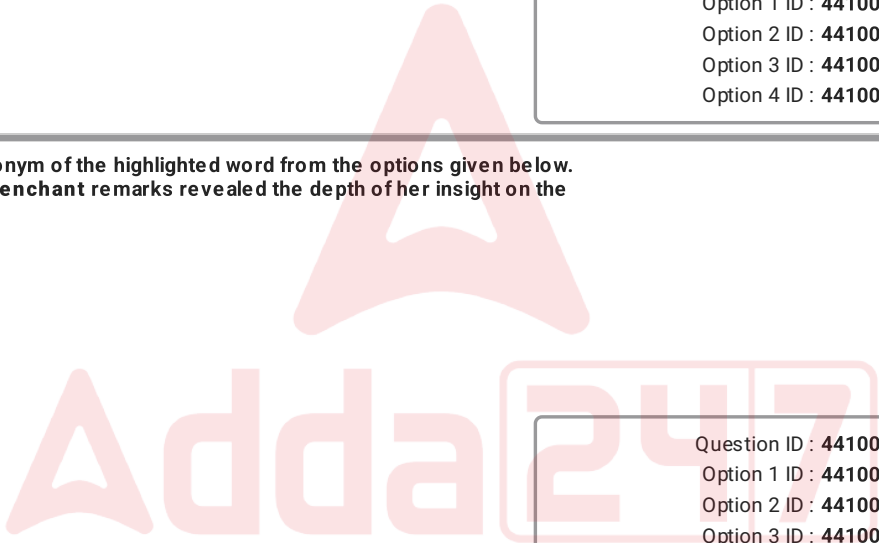
/ a

Question ID : 4410091338408
Option 1 ID : 4410095285663
Option 2 ID : 4410095285665
Option 3 ID : 4410095285664
Option 4 ID : 4410095285666

: synonym of the highlighted word from the options given below.
s trenchant remarks revealed the depth of her insight on the

nt

nt



Question ID : 4410091527548
Option 1 ID : 4410096033370
Option 2 ID : 4410096033368
Option 3 ID : 4410096033367
Option 4 ID : 4410096033369

Correct verb form to complete the sentence.

_____ a new strategy for the upcoming match.

g

d

s

Question ID : 4410091123459

Option 1 ID : 4410094429400

Option 2 ID : 4410094429397

Option 3 ID : 4410094429399

Option 4 ID : 4410094429398

Sentences are given below. While the first part is in the correct order, the remaining parts (labelled P, Q, R and S) are jumbled up. Arrange the parts in the correct order to form a meaningful and coherent sentence.

The solar system is made up of the Sun, various celestial objects, planets and moons with their moons, dwarf planets, asteroids, comets,

and so on. It is everything in balance and order in the solar system due to the Sun due to its strong gravitational pull,

Question ID : 441009434415

Option 1 ID : 4410091697180

Option 2 ID : 4410091697178

Option 3 ID : 4410091697181

Option 4 ID : 4410091697179

In the following question, a statement has been given with highlighted text. You are required to replace the highlighted text with the correct idiom given in the options.

It is not wise to get into trouble at all by advising others. 792

to dig one's grave

to stand still

to show one's fingers

to get hot and cold

Question ID : 441009415854

Option 1 ID : 4410091628809

Option 2 ID : 4410091628807

Option 3 ID : 4410091628808

Option 4 ID : 4410091628806

most appropriate option to fill in the given blank.

He arrived, the movie _____.

It had already started

It was ready starting

It had already started

It had already been starting

Question ID : 4410091127424

Option 1 ID : 4410094445248

Option 2 ID : 4410094445251

Option 3 ID : 4410094445249

Option 4 ID : 4410094445250

Choose the correct spelling to replace the misspelt word in the given sentence.

She appreciated her dilligence in completing the project on time.

delice → deligence

dilice → diligence

delice → diligence

dilice → diligense

Question ID : 4410091324680

Option 1 ID : 4410095230211

Option 2 ID : 4410095230209

Option 3 ID : 4410095230210

Option 4 ID : 4410095230212

Choose the word that has the same meaning as the underlined phrase in the given sentence.

Because of his knowledge, the speaker was not only knowledgeable but also at ease when talking to others, which made the session very successful.

at ease

at ease

at ease

at ease

Question ID : 441009170927

Option 1 ID : 441009676616

Option 2 ID : 441009676615

Option 3 ID : 441009676614

Option 4 ID : 441009676617

ion:

Read the passage carefully and answer the questions that follow.

Cataract is a major cause of blindness, which is also caused by a damage to the cornea. It often occurs in old age. As one starts growing old, the lens of the eye hardens, loses its transparency and becomes opaque. It obstructs the light rays from entering the eye. The onset of cataract is gradual. Sometimes, the cataract patient sees multiple images instead of a single one. Because of the gradual development of cataract, the afflicted person loses vision and the world becomes dark to him/her. The development of cataract is a complex process. However, the following factors can be responsible for its formation. Cataract generally develops in old age but sometimes, children are affected because of hereditary defect. Eye injuries too, can cause cataract. People who work in front of bright light rays for longer periods develop cataract earlier than others. Researchers opine that ultraviolet rays inhaled while smoking, carries substances internally damaging the eyes. Radiation, invisible to the human eye, is linked to skin cancer. The victim loses vision and the world becomes dark to him.

No : 16

Read the passage, what type of cancer is caused by ultraviolet

Question ID : 4410091524952
Option 1 ID : 4410096023004
Option 2 ID : 4410096023003
Option 3 ID : 4410096023005
Option 4 ID : 4410096023006



ion:

Read the passage carefully and answer the questions that follow.

Cataract is a major cause of blindness, which is also caused by a damage to the cornea. It often occurs in old age. As one starts growing old, the lens of the eye hardens, loses its elasticity and becomes opaque. It obstructs the light rays from entering the eye. The onset of cataract is gradual. Sometimes, the cataract patient sees multiple images instead of a single one. Because of the gradual development of cataract, the afflicted person loses vision and the world becomes dark to him/her. The development of cataract is a complex process. However, the following factors can be responsible for its formation. Cataract generally develops in old age but sometimes, children are affected because of hereditary defect. Eye injuries too, can cause cataract. People who work for longer periods develop cataract earlier than others. Researchers opine that asbestos, when inhaled while smoking, carries substances internally damaging the eyes. A mutation, invisible to the human eye, is linked to skin cancer. The victim loses vision and the world becomes dark to him.

No : 17

Choose the most appropriate antonym of the given word.

Visible

;

;

invisible

Question ID : 4410091524953

Option 1 ID : 4410096023008

Option 2 ID : 4410096023009

Option 3 ID : 4410096023010

Option 4 ID : 4410096023007



ion:

Read the passage carefully and answer the questions that follow.

Cataract is a major cause of blindness, which is also caused by a damage to the cornea. It often occurs in old age. As one starts growing old, the lens of the eye hardens, loses its transparency and becomes opaque. It obstructs the light rays from entering the eye. The onset of cataract obstructs the vision. Sometimes, the cataract patient sees multiple images instead of a single one. Because of the gradual development of cataract, the afflicted person loses vision and the world becomes dark to him/her. The development of cataract is a complex process. However, the following factors can be responsible for its formation. Cataract generally develops in old age but sometimes, children are affected because of hereditary defect. Eye injuries too, can cause cataract. People who work for longer periods develop cataract earlier than others. Researchers opine that asbestos, when inhaled while smoking, carries substances internally damaging the eyes. Ultraviolet radiation, invisible to the human eye, is linked to skin cancer. The victim loses vision and the world becomes dark to him.

No : 18

Choose the most appropriate tone of the passage.

a) Informative

b) Persuasive

c) Descriptive

d) Analytical

Question ID : 4410091524954

Option 1 ID : 4410096023011

Option 2 ID : 4410096023012

Option 3 ID : 4410096023014

Option 4 ID : 4410096023013

ion:

Read the passage carefully and answer the questions that follow.

Cataract is a major cause of blindness, which is also caused by a damage to the cornea. It often occurs in old age. As one starts growing old, the lens of the eye hardens, loses its transparency and becomes opaque. It obstructs the light rays from entering the eye. The onset of cataract obstructs the vision. Sometimes, the cataract patient sees multiple images instead of a single one. Because of the gradual development of cataract, the afflicted person loses vision and the world becomes dark to him/her. The development of cataract is a complex process. However, the following factors can be responsible for its formation. Cataract generally develops in old age but sometimes, children are affected because of hereditary defect. Eye injuries too, can cause cataract. People who work for longer periods develop cataract earlier than others. Researchers opine that asbestos, when inhaled while smoking, carries substances internally damaging the eyes. Ultraviolet radiation, invisible to the human eye, is linked to skin cancer. The victim loses vision and the world becomes dark to him.

No : 19

Choose the most appropriate title for the passage.

a) Cataracts: Problems & Solutions

b) Advances in Cataract Surgery

c) Trends in Pharmacotherapy of Cataracts

d) Vision: Cataract and Health Status

Question ID : 4410091524955

Option 1 ID : 4410096023018

Option 2 ID : 4410096023015

Option 3 ID : 4410096023016

Option 4 ID : 4410096023017

ion:

Read the passage carefully and answer the questions that follow.

Cataract is a major cause of blindness, which is also caused by a damage to the cornea. It often occurs in old age. As one starts growing old, the lens of the eye hardens, loses its transparency and becomes opaque. It obstructs the light rays from entering the eye. The onset of cataract results in blurred vision. Sometimes, the cataract patient sees multiple images instead of a single one. Because of the gradual development of cataract, the afflicted person loses vision and the world becomes dark to him/her. The development of cataract is a complex process. However, the following factors can be responsible for its formation. Cataract generally develops in old age but sometimes, children are born with cataract because of hereditary defect. Eye injuries too, can cause cataract. People who work for longer periods develop cataract earlier than others. Researchers opine that asbestos, when inhaled while smoking, carries substances internally damaging the eyes. Ultraviolet radiation, invisible to the human eye, is linked to skin cancer. The victim loses vision and the world becomes dark to him.

No : 20

Choose the correct order of information given below?

I. A person with cataract sees multiple images.
 II. The lens hardens and becomes opaque.
 III. This results in cataract.
 IV. One can be born with cataract.

- , I
 II
 III
 II

Question ID : 4410091524956
 Option 1 ID : 4410096023021
 Option 2 ID : 4410096023020
 Option 3 ID : 4410096023019
 Option 4 ID : 4410096023022

Page and Comprehension

शब्दों का सही अर्थ क्या होगा?

- सकना
 नटकना
 इना

Question ID : 4410091624796
 Option 1 ID : 4410096417711
 Option 2 ID : 4410096417714
 Option 3 ID : 4410096417712
 Option 4 ID : 4410096417713

हा चयन कर रिक्त स्थान की पूर्ति कीजिए।
.....रहा है।'

Question ID : 4410091524802
Option 1 ID : 4410096022417
Option 2 ID : 4410096022418
Option 3 ID : 4410096022415
Option 4 ID : 4410096022416

क्या करेगा कोई लोकोक्ति का सही अर्थ क्या होगा ?

होने में दक्ष होना।

न रहने पर आदमी निर्लज्ज हो जाता है।

ग्राम की आत्मसात करना।

ो से भागना।

Question ID : 4410091629453
Option 1 ID : 4410096435899
Option 2 ID : 4410096435898
Option 3 ID : 4410096435901
Option 4 ID : 4410096435900

न्पों में से उचित विशेषण का चयन करके वाक्य पूर्ण करें-
..वाणी ने सभा में बैठे सभी लोगों का मन मोह लिया।

Question ID : 4410091256249
Option 1 ID : 4410094957895
Option 2 ID : 4410094957893
Option 3 ID : 4410094957894
Option 4 ID : 4410094957896

मय पर विद्यालय जाता है।' रिक्त स्थान की पूर्ति उचित क्रिया-विशेषण से करें।

Question ID : 4410091288154
Option 1 ID : 4410095084476
Option 2 ID : 4410095084474
Option 3 ID : 4410095084477
Option 4 ID : 4410095084475

‘इ भी न हो’ वाक्यांश के लिए एक सार्थक शब्द क्या होगा?

।

Question ID : 4410091546724
Option 1 ID : 4410096109778
Option 2 ID : 4410096109776
Option 3 ID : 4410096109775
Option 4 ID : 4410096109777

मे किस मुहावरे का अर्थ संगत नहीं है?

।थ में होना - ज्ञान और अनुभव न होना

गड़ना - लज्जा से सिर नीचा होना

।पैर पड़ना - बुराई में पड़ जाना

पीछे लट्ट लिए फिरना - मूर्खता का काम करना

Question ID : 4410091626141
Option 1 ID : 4410096422965
Option 2 ID : 4410096422966
Option 3 ID : 4410096422967
Option 4 ID : 4410096422968

‘ोमार’ लोकोक्ति का सही अर्थ क्या होगा?

मोल लेना

।पड़ना

म और चाहने वाले ज्यादा

की स्थिति

Question ID : 4410091624801
Option 1 ID : 4410096417732
Option 2 ID : 4410096417734
Option 3 ID : 4410096417733
Option 4 ID : 4410096417731

ऋणों में कौन-से वाक्य में वर्तनी से सम्बन्धित त्रुटि नहीं है?

मेरिका से वापिस आ गया।

मेरिका से वापिश आ गया।

मेरिका से वपास आ गया।

।मेरिका से वापस आ गया।

Question ID : 4410091530695
Option 1 ID : 4410096045864
Option 2 ID : 4410096045865
Option 3 ID : 4410096045866
Option 4 ID : 4410096045863

-----खड़े थे' वाक्य के रिक्त स्थान के लिए सर्वाधिक
शोषण शब्द क्या है?

Question ID : 4410091186236
Option 1 ID : 4410094679148
Option 2 ID : 4410094679147
Option 3 ID : 4410094679150
Option 4 ID : 4410094679149

रे तोड़ना"- मुहावरे का क्या अर्थ है?

ह जाना

क बार्ते करना

गे मीठी यादों में खोया रहना

कठिन काम करना

Question ID : 4410091618325
Option 1 ID : 4410096392163
Option 2 ID : 4410096392166
Option 3 ID : 4410096392165
Option 4 ID : 4410096392164

' का चयन कर रिक्त स्थान की पूर्ति कीजिए ।
..... है।'

Question ID : 4410091524895
Option 1 ID : 4410096022785
Option 2 ID : 4410096022786
Option 3 ID : 4410096022783
Option 4 ID : 4410096022784

'य उधार' लोकोक्ति का क्या अर्थ है?

इने पर सब कुछ करना पड़ता है

माने पर वित्तीय सहायता देना

के अंदर कार्य करना

कार्य करना

Question ID : 4410091547211
Option 1 ID : 4410096111716
Option 2 ID : 4410096111718
Option 3 ID : 4410096111715
Option 4 ID : 4410096111717

ग दिखाना ' मुहावरे का सही अर्थ बताइए -

र धोखा देना

ग दर्द

ग

ना

Question ID : 4410091526250
Option 1 ID : 4410096028122
Option 2 ID : 4410096028124
Option 3 ID : 4410096028123
Option 4 ID : 4410096028125

स्यों को ध्यान से पढ़कर दिए गए विकल्पों में से उचित क्रम चुनिए -

श्वसनीयता प्राप्त होती है
: सफलता का मार्ग प्रशस्त होता है
ता अनुशासन में ढल जाती है
े सबसे मूल्यवान संपत्ति है

2

4

2

2

Question ID : 441009317100
Option 1 ID : 4410091234895
Option 2 ID : 4410091234894
Option 3 ID : 4410091234896
Option 4 ID : 4410091234897

ion:

निम्नलिखित प्रश्नों के उत्तर दीजिए।

ज हुआ—तो आज भी किसी को संवदिया की ज़रूरत पड़ सकती है। इस ज़माने में जबकि गाँव-गाँव में संवदिया के मारफ़त संवाद क्यों भेजेगा कोई? आज तो आदमी घर बैठे ही लंका तक ख़बर भेज सकता शल संवाद मँगा सकता है। फिर उसकी बुलाहट क्यों हुई? हरगोबिन बड़ी हवेली की टूटी ज़्योढ़ी पारकर े भाँति उसने वातावरण को सूँघकर संवाद का अंदाज़ लगाया।...निश्चय ही कोई गुप्त समाचार ले जाना है। नहीं मालूम हो। परेवा पँछी तक न जाने। पाँव लागी, बड़ी बहुरिया। बड़ी हवेली की बड़ी बहुरिया ने हरगोबिन गँख के इशारे से कुछ देर चुपचाप बैठने को कहा। बड़ी हवेली अब नाममात्र को ही बड़ी हवेली है। जहाँ नरानियों और जन-मज़दूरों की भीड़ लगी रहती थी, वहाँ आज हवेली की बड़ी बहुरिया अपने हाथ से सूपा में न रही है। इन हाथों में सिर्फ़ मेहँदी लगाकर ही गाँव की नाइन परिवार पालती थी। कहाँ गए वे दिन? ँस ली।

No : 16

पयुक्त शीर्षक का चयन कीजिए।

Question ID : 4410091524154
Option 1 ID : 4410096019891
Option 2 ID : 4410096019893
Option 3 ID : 4410096019894
Option 4 ID : 4410096019892

ion:

निम्नलिखित प्रश्नों के उत्तर दीजिए।

ज हुआ—तो आज भी किसी को संवदिया की ज़रूरत पड़ सकती है। इस ज़माने में जबकि गाँव-गाँव में संवदिया के मारफ़त संवाद क्यों भेजेगा कोई? आज तो आदमी घर बैठे ही लंका तक ख़बर भेज सकता शल संवाद मँगा सकता है। फिर उसकी बुलाहट क्यों हुई? हरगोबिन बड़ी हवेली की टूटी ड्योढ़ी पारकर े भाँति उसने वातावरण को सूँघकर संवाद का अंदाज़ लगाया।...निश्चय ही कोई गुप्त समाचार ले जाना है। नहीं मालूम हो। परेवा पँछी तक न जाने। पाँव लागी, बड़ी बहुरिया। बड़ी हवेली की बड़ी बहुरिया ने हरगोबिन गँख के इशारे से कुछ देर चुपचाप बैठने को कहा। बड़ी हवेली अब नाममात्र को ही बड़ी हवेली है। जहाँ नरानियों और जन-मज़दूरों की भीड़ लगी रहती थी, वहाँ आज हवेली की बड़ी बहुरिया अपने हाथ से सूपा में न रही है। इन हाथों में सिर्फ़ मेहँदी लगाकर ही गाँव की नाइन परिवार पालती थी। कहाँ गए वे दिन? सँस ली।

No : 17

क्या था ?

।

।

Question ID : 4410091524155

Option 1 ID : 4410096019896

Option 2 ID : 4410096019898

Option 3 ID : 4410096019895

Option 4 ID : 4410096019897

ion:

निम्नलिखित प्रश्नों के उत्तर दीजिए।

ज हुआ—तो आज भी किसी को संवदिया की ज़रूरत पड़ सकती है। इस ज़माने में जबकि गाँव-गाँव में संवदिया के मारफ़त संवाद क्यों भेजेगा कोई? आज तो आदमी घर बैठे ही लंका तक ख़बर भेज सकता शल संवाद मँगा सकता है। फिर उसकी बुलाहट क्यों हुई? हरगोबिन बड़ी हवेली की टूटी ड्योढ़ी पारकर े भाँति उसने वातावरण को सूँघकर संवाद का अंदाज़ लगाया।...निश्चय ही कोई गुप्त समाचार ले जाना है। नहीं मालूम हो। परेवा पँछी तक न जाने। पाँव लागी, बड़ी बहुरिया। बड़ी हवेली की बड़ी बहुरिया ने हरगोबिन गँख के इशारे से कुछ देर चुपचाप बैठने को कहा। बड़ी हवेली अब नाममात्र को ही बड़ी हवेली है। जहाँ नरानियों और जन-मज़दूरों की भीड़ लगी रहती थी, वहाँ आज हवेली की बड़ी बहुरिया अपने हाथ से सूपा में न रही है। इन हाथों में सिर्फ़ मेहँदी लगाकर ही गाँव की नाइन परिवार पालती थी। कहाँ गए वे दिन? सँस ली।

No : 18

ने के लिए पीढ़ी किसने दी ?

रिया ने

।

Question ID : 4410091524156

Option 1 ID : 4410096019901

Option 2 ID : 4410096019902

Option 3 ID : 4410096019899

Option 4 ID : 4410096019900

ion:

निम्नलिखित प्रश्नों के उत्तर दीजिए।

ज हुआ—तो आज भी किसी को संवदिया की ज़रूरत पड़ सकती है। इस ज़माने में जबकि गाँव-गाँव में संवदिया के मारफ़त संवाद क्यों भेजेगा कोई? आज तो आदमी घर बैठे ही लंका तक ख़बर भेज सकता शल संवाद मँगा सकता है। फिर उसकी बुलाहट क्यों हुई? हरगोबिन बड़ी हवेली की टूटी ड्योढ़ी पारकर े भाँति उसने वातावरण को सूँघकर संवाद का अंदाज़ लगाया।...निश्चय ही कोई गुप्त समाचार ले जाना है। नहीं मालूम हो। परेवा पँछी तक न जाने। पाँव लागी, बड़ी बहुरिया। बड़ी हवेली की बड़ी बहुरिया ने हरगोबिन गँख के इशारे से कुछ देर चुपचाप बैठने को कहा। बड़ी हवेली अब नाममात्र को ही बड़ी हवेली है। जहाँ नरानियों और जन-मज़दूरों की भीड़ लगी रहती थी, वहाँ आज हवेली की बड़ी बहुरिया अपने हाथ से सूपा में न रही है। इन हाथों में सिर्फ़ मेहँदी लगाकर ही गाँव की नाइन परिवार पालती थी। कहाँ गए वे दिन? रँस ली।

No : 19

अन्दर का विलोम शब्द कौन है ?

न

Question ID : 4410091524157

Option 1 ID : 4410096019905

Option 2 ID : 4410096019903

Option 3 ID : 4410096019904

Option 4 ID : 4410096019906

ion:

निम्नलिखित प्रश्नों के उत्तर दीजिए।

ज हुआ—तो आज भी किसी को संवदिया की ज़रूरत पड़ सकती है। इस ज़माने में जबकि गाँव-गाँव में संवदिया के मारफ़त संवाद क्यों भेजेगा कोई? आज तो आदमी घर बैठे ही लंका तक ख़बर भेज सकता शल संवाद मँगा सकता है। फिर उसकी बुलाहट क्यों हुई? हरगोबिन बड़ी हवेली की टूटी ड्योढ़ी पारकर े भाँति उसने वातावरण को सूँघकर संवाद का अंदाज़ लगाया।...निश्चय ही कोई गुप्त समाचार ले जाना है। नहीं मालूम हो। परेवा पँछी तक न जाने। पाँव लागी, बड़ी बहुरिया। बड़ी हवेली की बड़ी बहुरिया ने हरगोबिन गँख के इशारे से कुछ देर चुपचाप बैठने को कहा। बड़ी हवेली अब नाममात्र को ही बड़ी हवेली है। जहाँ नरानियों और जन-मज़दूरों की भीड़ लगी रहती थी, वहाँ आज हवेली की बड़ी बहुरिया अपने हाथ से सूपा में न रही है। इन हाथों में सिर्फ़ मेहँदी लगाकर ही गाँव की नाइन परिवार पालती थी। कहाँ गए वे दिन? रँस ली।

No : 20

ख़बर का पर्यायवाची शब्द कौन नहीं है ?

Question ID : 4410091524158

Option 1 ID : 4410096019907

Option 2 ID : 4410096019910

Option 3 ID : 4410096019908

Option 4 ID : 4410096019909

एक विकास के सिद्धांत में प्रथम चरण (आज्ञापालन और दंड) का प्राथमिक

सिद्धांतों का पालन करना

चनना

। आवश्यकताओं के आधार पर कार्यों का आकलन करना

ॠ व्यवस्था बनाए रखना

Question ID : 4410091648568

Option 1 ID : 4410096510493

Option 2 ID : 4410096510492

Option 3 ID : 4410096510494

Option 4 ID : 4410096510495

क्षा आयोग (1948-49) की अध्यक्षता निम्नलिखित में से किसके द्वारा की गई

०. नाइक

।द साहा

ॠर हुसैन

ॠाधाकृष्णन

Question ID : 4410091572289

Option 1 ID : 4410096210153

Option 2 ID : 4410096210152

Option 3 ID : 4410096210150

Option 4 ID : 4410096210151

०. कौन-सा, शांति शिक्षा का उद्देश्य नहीं है?

। लिए शांति

ॠरजीविता के लिए शांति

ॠे लिए शांति

ॠे लिए शांति

Question ID : 4410091544163

Option 1 ID : 4410096099754

Option 2 ID : 4410096099751

Option 3 ID : 4410096099753

Option 4 ID : 4410096099752

०. कौन-सा, भारत में जाति व्यवस्था का एक सर्वोत्तम अभिलक्षण है?

। समानता

ॠ पदानुक्रम का अभाव

ॠ सामाजिक स्तरीकरण

ॠ गतिशीलता

Question ID : 4410091611209

Option 1 ID : 4410096363693

Option 2 ID : 4410096363694

Option 3 ID : 4410096363691

Option 4 ID : 4410096363692

on) के अनुसार किशोरावस्था में कौन-सा संवेगात्मक विकास सर्वाधिक

II प्राप्त करना

विश्वास विकसित करना

रू करना

स्थापित करना

Question ID : 4410091533604

Option 1 ID : 4410096057457

Option 2 ID : 4410096057456

Option 3 ID : 4410096057458

Option 4 ID : 4410096057455

।पने विद्यार्थियों के लिए ब्लॉक बनाना, चित्रकारी करना और साइकिल चलाना
I की योजना बनाती है। विकासात्मक पैटर्न के अनुसार, इन गतिविधियों के
मेल करने का मुख्य लाभ क्या है?

I: भाषा और संचार कौशल विकसित करते हैं।

के बीच सामाजिक अंतःक्रिया को बढ़ावा देते हैं।

I और सूक्ष्म गत्यात्मक विकास दोनों में सहायक होते हैं।

की अकादमिक तत्परता में सुधार करते हैं।

Question ID : 4410091682567

Option 1 ID : 4410096637525

Option 2 ID : 4410096637524

Option 3 ID : 4410096637523

Option 4 ID : 4410096637522

धे बच्चों में सूक्ष्म गत्यात्मक कौशल के विकास को सर्वोत्तम तरीके से वर्णन करती

Running)

पर चढ़ना (Climbing stairs)

फीते बांधना (Tying shoelaces)

kipping)

Question ID : 4410091607385

Option 1 ID : 4410096348512

Option 2 ID : 4410096348514

Option 3 ID : 4410096348515

Option 4 ID : 4410096348513

pace education) से सर्वाधिक निकटता से संबंधित संकल्पना कौन-सी है?

- संप्रेषण
- प्रतिस्पर्धा
- तुशासन
- नवाचार

Question ID : 4410091607814
Option 1 ID : 4410096350208
Option 2 ID : 4410096350209
Option 3 ID : 4410096350211
Option 4 ID : 4410096350210

1 (1952-53) के अनुसार, माध्यमिक विद्यालयों में व्यावसायिक शिक्षा शुरू
देश्य क्या था?

- कादमिक उत्कृष्टता को बढ़ावा देना
- ों के बीच प्रतिस्पर्धा बढ़ाना
- स्था की आवश्यकताओं को पूरा करने के लिए विभिन्न जीविकाओं के लिए तैयारी करना
- शिक्षा की अवधि को दस वर्ष तक बढ़ाना

Question ID : 4410091624553
Option 1 ID : 4410096416747
Option 2 ID : 4410096416748
Option 3 ID : 4410096416749
Option 4 ID : 4410096416750

धु समाजवादी पंथनिरपेक्ष लोकतांत्रिक गणराज्य' पद का संबंध भारतीय
दृष्टिकोण से है?

- ों में न्यायिक प्रक्रियाएँ
- विकास योजनाएँ
- गाली के उद्देश्य
- ने संरचना

Question ID : 4410091639711
Option 1 ID : 4410096476154
Option 2 ID : 4410096476153
Option 3 ID : 4410096476152
Option 4 ID : 4410096476151

प्रत्येक समूह अस्तित्व में आए और एक ही व्यवसाय में लगे व्यक्तियों के इन हों को _____ के नाम से जाना जाने लगा।

नाम (name)

वर्ग (class)

वर्ग (class)

वर्ग (class)

Question ID : 4410091544053

Option 1 ID : 4410096099312

Option 2 ID : 4410096099313

Option 3 ID : 4410096099314

Option 4 ID : 4410096099311

दो शिशु, समान पारिवारिक दिनचर्या के बावजूद, अलग-अलग आयु हैं। एक शिशु दस महीने की आयु में चलना शुरू करता है, जबकि दूसरा चौदह महीने। यह प्रेक्षण विकास के संबंध में सर्वोत्तम रूप से किसे सिद्ध करता है?

ऑर्थोगेनेटिक सिद्धांत (Orthogenetic Principle)

एकीकरण (Integration)

अभिमुख प्रगति (Cephalocaudal Progression)

व्यक्तिगत भिन्नताएं (Individual Differences)

Question ID : 4410091604103

Option 1 ID : 4410096335598

Option 2 ID : 4410096335601

Option 3 ID : 4410096335600

Option 4 ID : 4410096335599

एक क्षेत्र में स्थित एक विद्यालय प्रारंभिक शिक्षार्थियों के बीच साक्षरता दर में सुधार हुआ है। किस हस्तक्षेप से सतत साक्षरता में सुधार होने की सर्वाधिक संभावना है?

अनुदेशन और लेखन के मौखिक कथाकारिता पर जोर देना

अनुदेशन के लिए केवल क्षेत्रीय प्रमुख भाषा का उपयोग करना

अनुदेशन में द्विभाषी साक्षरता कार्यक्रम शुरू करना

अनुदेशन में साक्षरता अनुदेशन शुरू करना

Question ID : 4410091621797

Option 1 ID : 4410096405995

Option 2 ID : 4410096405994

Option 3 ID : 4410096405992

Option 4 ID : 4410096405993

गत शांति शिक्षा के तहत विद्यार्थियों में अंतर्राष्ट्रीय एकजुटता और समीक्षात्मक करना चाहता है। इस उद्देश्य के लिए कौन-सा कक्षागत कार्य सबसे उपयुक्त

द्वंद्वों पर पाठ्यपुस्तक सारांश निर्धारित करना

प्रथाओं के बारे में विद्यार्थियों से लघु कथाएं लिखवाना

सामाजिक मुद्दों को संबंधित करने वाली सहभागी परियोजनाओं का आयोजन करना

संबंधित शब्दावली पर बहुविकल्पीय प्रश्नोत्तरी आयोजित करना

Question ID : 4410091613208

Option 1 ID : 4410096371666

Option 2 ID : 4410096371669

Option 3 ID : 4410096371667

Option 4 ID : 4410096371668

संवेगात्मक विकास के किस चरण में बालक सही-गलत की समझ विकसित देते हैं और यह समझने लगते हैं कि क्रियाओं के परिणाम होते हैं?

स्था

स्थिति

यावस्था

बाल्यावस्था

Question ID : 4410091622535

Option 1 ID : 4410096408916

Option 2 ID : 4410096408919

Option 3 ID : 4410096408918

Option 4 ID : 4410096408917

समाजों में, कौन-सा विकास सामाजिकरण के पारंपरिक तरीकों को रूपांतरित करता है?

संविधानों द्वारा सामाजिक मानदंडों को प्रतिस्थापित करना

संघर्षों के बीच संवाद का वर्चुअल स्पेस पर स्थानांतरण

डेटा का उन्मूलन

पुस्तकों के उपयोग में वृद्धि

Question ID : 4410091543167

Option 1 ID : 4410096095710

Option 2 ID : 4410096095709

Option 3 ID : 4410096095711

Option 4 ID : 4410096095708

17. वह अवस्था जब बच्चे वस्तुओं को दशानि के लिए प्रतीकों का उपयोग करना
----- कहलाती है।

1. यात्मक (Concrete operational)

2. यात्मक (Preoperational)

3. क संक्रियात्मक (Formal operational)

4. क (Sensorimotor)

Question ID : 4410091538541

Option 1 ID : 4410096077431

Option 2 ID : 4410096077429

Option 3 ID : 4410096077432

Option 4 ID : 4410096077430

18. वरण के दौरान बच्चे आमतौर पर स्वयं के और दूसरों के संवेगों को पहचानना
! तदनुभूति के प्रारंभिक लक्षण प्रदर्शित करते हैं?

1. था और प्रारंभिक संवेगात्मक जुड़ाव की अवधि

2. यावस्था और साथियों के समायोजन का चरण

3. नेर्माण के साथ किशोरावस्था

4. क अंतःक्रिया के साथ प्रारंभिक बाल्यावस्था

Question ID : 4410091538507

Option 1 ID : 4410096077293

Option 2 ID : 4410096077295

Option 3 ID : 4410096077296

Option 4 ID : 4410096077294

19. 1 (1952-53) द्वारा माध्यमिक शिक्षा के विविधीकरण से संबंधित किस प्रमुख
सा की गई थी?

1. 5 स्तर पर परीक्षाओं को समाप्त करना

2. 5 विद्यालयी शिक्षा की अवधि को घटाकर चार वर्ष करना

3. यों में 5+3+4 पैटर्न लागू करना

4. तीय माध्यमिक विद्यालय प्रणाली की शुरुआत करना

Question ID : 4410091621667

Option 1 ID : 4410096405474

Option 2 ID : 4410096405473

Option 3 ID : 4410096405475

Option 4 ID : 4410096405472

।हत, कौन-सी कार्यनीति ग्रामीण समुदायों में प्राथमिक शिक्षा के ग की चुनौतियों से निपटने के लिए सर्वोत्तम है?

विद्यालय सहभागिता का सुदृढीकरण

द्वि-शिक्षक प्रशिक्षण का उन्नयन

र की नीतिगत समीक्षाओं में वृद्धि

पाठ्यचर्या अभिकल्प का विस्तार

Question ID : 4410091639899

Option 1 ID : 4410096476802

Option 2 ID : 4410096476805

Option 3 ID : 4410096476804

Option 4 ID : 4410096476803

दर्भ में, प्रेक्षण के दौरान असुखद संवेगों को स्वीकार करना क्यों महत्वपूर्ण है?

क बनने के लिए असुखद संवेगों को नजरअंदाज करना

नदारीपूर्वक स्व-आकलन और वृद्धि का अवसर देना है

स्थिति तक संवेगों का अति-विश्लेषण करना

के लिए संवेगों का दमन करना

Question ID : 4410091678927

Option 1 ID : 4410096623921

Option 2 ID : 4410096623922

Option 3 ID : 4410096623924

Option 4 ID : 4410096623923

, विद्यालय की पाठ्यचर्याओं में राष्ट्रीय एकता और अंतर्राष्ट्रीय समझ दोनों को से बढ़ावा देता है?

नकीकृत परीक्षणों पर ध्यान केंद्रित करना

गानीय इतिहास पढ़ाना

कृतिक परिप्रेक्ष्य को एकीकृत करना

ष्ट्रीय त्योहार मनाना

Question ID : 4410091624679

Option 1 ID : 4410096417250

Option 2 ID : 4410096417248

Option 3 ID : 4410096417249

Option 4 ID : 4410096417247

1. आर्शी श्री इडियट्स (2009) में फरहान कुरैशी के करियर संघर्ष का विश्लेषण करता पहचान की स्थिति से अलग होने का प्रयास कर रहा है?

वेमिश्रण

जिक अधिस्थगन

गति

अनशोध प्रतिबंध

Question ID : 4410091549879

Option 1 ID : 4410096122202

Option 2 ID : 4410096122201

Option 3 ID : 4410096122199

Option 4 ID : 4410096122200

2. तनपरक जर्नल (reflective journal) को बनाए रखने का एक मुख्य उद्देश्य में कौन-सा है?

क रिपोर्टिंग के लिए दैनिक शेड्यूल को रिकॉर्ड करना

ख के लिए विद्यार्थियों के कार्यप्रदर्शन का दस्तावेजीकरण करना

ग परिचर्चा को केवल स्वतंत्र चिंतन से प्रतिस्थापित करना

घ वृद्धि की निगरानी करना और गहन स्पष्टता के लिए अनुभवों पर पुनर्विचार करना

Question ID : 4410091572207

Option 1 ID : 4410096209830

Option 2 ID : 4410096209832

Option 3 ID : 4410096209833

Option 4 ID : 4410096209831

3. रक्षा के बाहर भाषा की भूमिका का सबसे अच्छा वर्णन करता है?

अ उपयोग शिक्षकों द्वारा केवल औपचारिक संप्रेषण के लिए किया जाता है।

ब के बाहर लिखित संप्रेषण तक सीमित है।

क आवश्यकता स्कूल के बाहर दैनिक जीवन के लिए नहीं है।

घ केंद्रों को विभिन्न सामाजिक स्थितियों में बातचीत करने में सहायता प्रदान करता है।

Question ID : 4410091627332

Option 1 ID : 4410096427615

Option 2 ID : 4410096427616

Option 3 ID : 4410096427617

Option 4 ID : 4410096427614

4. में कौन-सा, गणित में कौशल विकास से संबंधित उद्देश्य है?

अ सांख्यिकीय तालिकाओं को आरेखित करने, पढ़ने और उनकी व्याख्या करने में कौशल विकसित करना

ब गणित के विकास को समझना

क प्रति प्रेम विकसित करना

घ उच्च शिक्षा के लिए तैयारी करना

Question ID : 4410091612173

Option 1 ID : 4410096367535

Option 2 ID : 4410096367536

Option 3 ID : 4410096367538

Option 4 ID : 4410096367537

पे (positive peace) की अवधारणा में मुख्य रूप से क्या शामिल है?

द्वन्द्व का अभाव

मक हिंसा का उन्मूलन

त्रीकरण

प्राथम से संघर्ष का दमन

Question ID : 4410091602247

Option 1 ID : 4410096328568

Option 2 ID : 4410096328567

Option 3 ID : 4410096328566

Option 4 ID : 4410096328569

से कौन-सा सिद्धांत सरल विचारों से जटिल विचारों की ओर बढ़ने पर बल देता

प्रगति सिद्धांत (Principle of progression)

प्रेरणा का सिद्धांत (Principle of motivation)

क्रिया का सिद्धांत (Principle of activity)

संशोधन का सिद्धांत (Principle of revision)

Question ID : 4410091629206

Option 1 ID : 4410096434922

Option 2 ID : 4410096434925

Option 3 ID : 4410096434923

Option 4 ID : 4410096434924

पाठ तैयार करता है जहाँ विद्यार्थी नाटक (play) की संरचना का विश्लेषण करते हैं। इस गतिविधि में कौन-सा सिद्धांत प्रयोग किया जाता है? इस गतिविधि में प्रथमिकता दी जा रही है?

शब्दिक बोध पर ध्यान केंद्रित करना

शारीरिक पाठ जागरूकता विकसित करना

संबंधी परिपाटियों का अभ्यास करना

सूची की स्मरण करना

Question ID : 4410091629363

Option 1 ID : 4410096435537

Option 2 ID : 4410096435535

Option 3 ID : 4410096435536

Option 4 ID : 4410096435534

की व्यवस्था किस प्रकार के नियमों द्वारा नियंत्रित होती है?

- नक नियम (Syntactic rules)
- फ नियम (Phonological rules)
- वेषक नियम (Semantic rules)
- रेक नियम (Pragmatic rules)

Question ID : 4410091572382
Option 1 ID : 4410096210516
Option 2 ID : 4410096210518
Option 3 ID : 4410096210517
Option 4 ID : 4410096210519

शैक्षिक विषयवस्तु वाली फिल्म देखते समय, विद्यार्थियों को विषय-वस्तु के साथ रूप से जुड़ने के लिए प्रेरित करने का व्यावहारिक तरीका क्या है?

- गों को बिना अनुचितन के सारांश लिखने के लिए कहना।
- गों का तथ्यात्मक विवरण पर तुरंत परीक्षण करना।
- गों को देखने के बाद प्रमुख विषयों पर चर्चा करने के लिए प्रोत्साहित करना।
- गों को बिना चर्चा के फिल्म देखने की अनुमति देना।

Question ID : 4410091641342
Option 1 ID : 4410096482518
Option 2 ID : 4410096482517
Option 3 ID : 4410096482516
Option 4 ID : 4410096482515

ि के संबंध में MBCT का विशिष्ट चिकित्सीय लक्ष्य क्या है?

- भावनाओं से स्वयं को अलग करना
- ानात्मक विकृतियों (distortions) को कम करना
- ास (non-striving) के स्वीकृति को विकसित करना
- र्ण व्यवहारिक विकल्प प्राप्त करना

Question ID : 4410091557266
Option 1 ID : 4410096151596
Option 2 ID : 4410096151593
Option 3 ID : 4410096151595
Option 4 ID : 4410096151594

सांस्कृतिक व्यक्तित्व की समसामयिक प्रासंगिकता का अध्ययन करना क्यों

कार्यक्रमों के माध्यम से उस प्रसिद्धि का सम्मान करने का एक माध्यम भी है।

त के योगदानों को वर्तमान सामाजिक मुद्दों से जोड़ने में सहायक होता है।

ये व्यक्ति को उसकी प्रसिद्धि के संबंध में ऐतिहासिक तथ्यों को स्मरण रखने में सक्षम बनाता है।

ये प्रतिष्ठित सांस्कृतिक व्यक्तित्व के प्रारंभिक जीवन से जुड़ी व्यक्तिगत कहानियों को सीखने में सहायक

Question ID : 4410091696626

Option 1 ID : 4410096692340

Option 2 ID : 4410096692337

Option 3 ID : 4410096692338

Option 4 ID : 4410096692339

तत्विक जीवन की वस्तुओं का उपयोग करते समय, शिक्षण के किस सिद्धांत को लागू किया जाता है?

कठिन

जटिल

मूर्त

के लिए विश्लेषण

Question ID : 4410091696676

Option 1 ID : 4410096692512

Option 2 ID : 4410096692509

Option 3 ID : 4410096692510

Option 4 ID : 4410096692511

धिगम चक्र प्रक्रिया का आरंभ किस चरण से होता है?

रवाई के अपसारी अवलोकन

चनबद्धता के माध्यम से मूर्त अनुभव

के बिना अमूर्त संप्रत्ययीकरण

त्मसात्कारी सिद्धांत का निर्माण

Question ID : 4410091553887

Option 1 ID : 4410096138220

Option 2 ID : 4410096138218

Option 3 ID : 4410096138219

Option 4 ID : 4410096138221

धर्निकों में से किसने कथन "अनुभव, बहुत ही विनयपूर्ण अनुभव, किसी भी (या बौद्धिक विषयवस्तु) उत्पन्न करने और उसे धारण करने में सक्षम है, लेकिन सिद्धांत को सिद्धांत के रूप में भी निश्चित रूप से समझा नहीं जा सकता है"

डी (John Dewey)

गोल्सकी (Lev Vygotsky)

पिजे (Jean Piaget)

स्किनर (B. F. Skinner)

Question ID : 4410091626558

Option 1 ID : 4410096424605

Option 2 ID : 4410096424606

Option 3 ID : 4410096424604

Option 4 ID : 4410096424607

भाषाएं जानने और उनका उपयोग करने वाले व्यक्ति के लिए सामान्य शब्द क्या है?

पॉलीग्लॉट (Polyglot)

मॉनोग्लॉट (Monoglot)

इंटरप्रेटर (Interpreter)

द्विभाषी (Diglossia)

Question ID : 4410091603901

Option 1 ID : 4410096334790

Option 2 ID : 4410096334791

Option 3 ID : 4410096334793

Option 4 ID : 4410096334792

अध्यापक से किस पर केंद्रित है?

नेतृत्व वाली खोज प्रक्रिया

प्रोजेक्ट-आधारित प्रक्रिया

गैर-चालित अधिगम प्रक्रिया

नेतृत्व वाली अधिगम प्रक्रिया

Question ID : 4410091602266

Option 1 ID : 4410096328643

Option 2 ID : 4410096328644

Option 3 ID : 4410096328645

Option 4 ID : 4410096328642

कौशलों के आकलन के लिए विभिन्न साधनों और विधियों का उपयोग करने की जाती है?

कार्यभार को कम करने के लिए

अधिगम के विविध पहलुओं को समझने के लिए

मूह प्रदर्शन पर ध्यान केंद्रित करने के लिए

कौशल का गहन आकलन करने के लिए

Question ID : 4410091651137

Option 1 ID : 4410096520660

Option 2 ID : 4410096520658

Option 3 ID : 4410096520661

Option 4 ID : 4410096520659

कौन-सी, भाषा की प्रकृति नहीं है?

(Unique)

की व्यवस्था (System of symbols)

कीय (Dictatorial)

क (Arbitrary)

Question ID : 4410091546721

Option 1 ID : 4410096109765

Option 2 ID : 4410096109763

Option 3 ID : 4410096109766

Option 4 ID : 4410096109764

भेकथन (A) और कारण (R) को पढ़िए तथा उनके आधार पर सही विकल्प का

गणित के पाठों में वास्तविक जीवन के संदर्भों का उपयोग करने से विद्यार्थियों को मदद मिल सकती है।

विक-जीवन के उदाहरण, विद्यार्थियों के लिए अमूर्त अवधारणाओं को अधिक

दोनों सही हैं तथा R, A की सही व्याख्या है।

है, लेकिन R सही है।

!, लेकिन R गलत है।

! दोनों सही हैं लेकिन R, A की सही व्याख्या नहीं है।

Question ID : 4410091609305

Option 1 ID : 4410096356144

Option 2 ID : 4410096356147

Option 3 ID : 4410096356146

Option 4 ID : 4410096356145

जो शिक्षण विधियों पर लगातार चिंतन करता रहता है और संबंधित रणनीतियों ता रहता है, वह मुख्यतः कौन-सी व्यावसायिक विशेषता प्रदर्शित कर रहा होता

ल व्यावसायिकता (Reflective professionalism)

क अनुपालन (Instructional compliance)

मक सुसंगति (Procedural consistency)

क दक्षता (Administrative efficiency)

Question ID : 4410091601916

Option 1 ID : 4410096327266

Option 2 ID : 4410096327267

Option 3 ID : 4410096327269

Option 4 ID : 4410096327268

स्थापित किए गए विद्यालय के लिए, कौन-सी क्रिया संसाधनों के प्रभावी श्रित करती है?

ा के अनुरक्षण के लिए प्रत्येक विभाग को समान धनराशि का आवंटन

तकनीकी संसाधनों की थोक उपाधि

बजट और परिवीक्षण प्रणालियों की स्थापना

ों के नामांकन की संख्या स्थिर होने तक प्रमुख संसाधन संबंधी निर्णयों का आस्थगन

Question ID : 4410091642788

Option 1 ID : 4410096488047

Option 2 ID : 4410096488045

Option 3 ID : 4410096488046

Option 4 ID : 4410096488048

के कौन-सा विकल्प शिक्षक की पहचान के मूल पहलू का सर्वोत्तम रूप से वर्णन

रूप

येक पोशाक

शेषज्ञता

न मान्यताएं और विश्वास

Question ID : 4410091634563

Option 1 ID : 4410096456344

Option 2 ID : 4410096456343

Option 3 ID : 4410096456345

Option 4 ID : 4410096456346

से किसे एक प्रभावी शिक्षक की मुख्य विशेषता के रूप में पहचाना जाता है?

। और उत्साह

। पर जोर

ईशात्मक योजना

नुशासन और अधिकार

Question ID : 4410091682747

Option 1 ID : 4410096638239

Option 2 ID : 4410096638240

Option 3 ID : 4410096638241

Option 4 ID : 4410096638238

resses a student's report on a heated debate about curriculum
re board members held conflicting views. Which verb form
cates internal disagreement within the board?

Question ID : 4410091558518

Option 1 ID : 4410096156468

Option 2 ID : 4410096156465

Option 3 ID : 4410096156466

Option 4 ID : 4410096156467

।ल में बच्चे वस्तुओं का उपयोग किसी अन्य चीज़ का निरूपित करने के लिए
किसी ब्लॉक को कार समझकर खेलना?

मक खेल (Functional play)

।ल (Solitary play)

मक खेल (Symbolic play)

ऋ खेल (Constructive play)

Question ID : 4410091696821

Option 1 ID : 4410096693089

Option 2 ID : 4410096693091

Option 3 ID : 4410096693088

Option 4 ID : 4410096693090

गव के नियम (Thorndike's Law of Effect) के अनुसार, अधिगम की सबसे तब होती है जब किसी _____।

। फलस्वरूप खुशी या संतुष्टि मिलती है

फलस्वरूप दंड मिलता है

। बार-बार करने के लिए मजबूर किया जाता है

ना प्रतिपुष्टि के घटित होती है

Question ID : 4410091627040

Option 1 ID : 4410096426467

Option 2 ID : 4410096426466

Option 3 ID : 4410096426469

Option 4 ID : 4410096426468

।थमिक स्तर पर शुरू किए गए नए शिक्षण-अधिगम कार्यक्रम को विद्यालयों द्वारा र्गन्वित करने के लिए मुख्य रूप से कौन उत्तरदायी है?

में कक्षा-शिक्षक

। शिक्षा निदेशक

। में विद्यालय लिपिक

के प्रधानाध्यापक

Question ID : 4410091689766

Option 1 ID : 4410096665382

Option 2 ID : 4410096665384

Option 3 ID : 4410096665385

Option 4 ID : 4410096665383

।क्षक एक ऐसा क्रियाकलाप तैयार करता है, जिसमें विद्यार्थी कक्षा की वस्तुओं र हैंडस्पैन (handspan) का उपयोग करते हैं और फिर समूह में परिणामों की गणित शिक्षण का कौन-सा मूल उद्देश्य इस परिदृश्य का सबसे अच्छा उदाहरण

।त्मक अधिगम के माध्यम से व्यावहारिक मापन कौशल को बढ़ावा देना

।प से पाठ्यपुस्तक अभ्यासों पर ध्यान केंद्रित करना

।ओं के माध्यम से उन्नत गणितीय सिद्धांतों का परिचय कराना

।ऋइयों के रटन स्मरण (rote memorization) पर जोर देना

Question ID : 4410091613380

Option 1 ID : 4410096372354

Option 2 ID : 4410096372357

Option 3 ID : 4410096372355

Option 4 ID : 4410096372356

से कौन-सा संयोजन विद्यार्थियों में जीवनपर्यंत अधिगम को बढ़ावा देने के लिए शिक्षक के मनोवैज्ञानिक कौशल और अभिवृत्ति की सर्वोत्तम रूप से व्याख्या करता

और अनुकूलनीयता

और निष्क्रियता

और प्रभाविता

ना और नियमनिष्ठता

Question ID : 4410091623810

Option 1 ID : 4410096413812

Option 2 ID : 4410096413815

Option 3 ID : 4410096413813

Option 4 ID : 4410096413814

Subject-verb agreement in English grammar?

Subject and verb must match in tense

Verb always comes before the subject

Subject and verb must rhyme

Subject and verb must match in number

Question ID : 4410091629739

Option 1 ID : 4410096437043

Option 2 ID : 4410096437045

Option 3 ID : 4410096437044

Option 4 ID : 4410096437042

बिज्ञापन का बच्चों और वयस्कों दोनों पर क्या संभावित प्रभाव पड़ता है?

बिज्ञापन सभी आयु वर्ग के उपभोक्ताओं की अभिरूचियों को प्रभावित करते हैं।

बिज्ञापन का परिवार के निर्णयन पर कभी कोई प्रभाव नहीं पड़ता है।

बिज्ञापन केवल बच्चों को प्रभावित करते हैं, वयस्कों को नहीं प्रभावित करते हैं।

बिज्ञापन सदैव बेहतर समालोचनात्मक चिंतन को बढ़ावा देते हैं।

Question ID : 4410091611030

Option 1 ID : 4410096362975

Option 2 ID : 4410096362978

Option 3 ID : 4410096362976

Option 4 ID : 4410096362977

बार-बार प्रैक्टिस करने के बावजूद जटिल अवधारणाओं को याद रखने में
ई होती है। संज्ञानात्मक और पर्यावरणीय कारकों को ध्यान में रखते हुए, कौन-सा
(vention) दीर्घकालिक बोध को बेहतर बनाने में सर्वाधिक उपयुक्त होगा?

और प्रासंगिक उदाहरणों का उपयोग करके कार्यों को व्यवस्थित करना

विभिन्नता के बिना प्रैक्टिस ड्रिल (practice drill) की पुनरावृत्ति करना

नचर्या में अतिरिक्त स्मरण रखने के अभ्यास को शामिल करना

रों के लिए बाह्य पारितोषिक में वृद्धि करना

Question ID : 4410091628676

Option 1 ID : 4410096432851

Option 2 ID : 4410096432852

Option 3 ID : 4410096432853

Option 4 ID : 4410096432850

Is move from a learner's passive vocabulary to active

using exclusively on reading, not speaking or writing

/ memorizing their dictionary meanings

bring them and hoping for natural use

ugh continual review, reuse and recycling

Question ID : 4410091576733

Option 1 ID : 4410096227791

Option 2 ID : 4410096227790

Option 3 ID : 4410096227788

Option 4 ID : 4410096227789

मिक स्तर पर गणित के शिक्षण के उद्देश्यों के अनुरूप एक कक्षागत गतिविधि
ता है। इन उद्देश्यों को पूर्ण करने के लिए शिक्षक को किस उपागम को
चाहिए?

त्तों के लिए गणना की ट्रिक सिखाना

के लिए पुनरावर्ती कार्यपत्रकों को असाइन करना

माध्यम से पैटर्न और संबंधों के अन्वेषण को सुगम बनाना

तालिकाओं के रटन सस्वरपाठ का आदेश देना

Question ID : 4410091627352

Option 1 ID : 4410096427696

Option 2 ID : 4410096427694

Option 3 ID : 4410096427695

Option 4 ID : 4410096427697

स्वस्थ जागरूकता कार्यक्रम आयोजित करने के लिए स्थानीय गैर सरकारी) से सहायता लेता है। यह _____ को दर्शाता है।

के आंतरिक मूल्यांकन

संगठनों के साथ संबंध

रकार पर निर्भरता

शिक्षक पहल

Question ID : 4410091568391

Option 1 ID : 4410096194848

Option 2 ID : 4410096194849

Option 3 ID : 4410096194850

Option 4 ID : 4410096194851

नुभव अधिगम प्रक्रिया में किस प्रकार योगदान करते हैं?

की आवश्यकता को प्रतिस्थापित करते हैं

स्मरण में सहायता करते हैं

नकारी के लिए एक नींव के रूप में कार्य करते हैं

रण की आवश्यकता को समाप्त करते हैं

Question ID : 4410091612325

Option 1 ID : 4410096368143

Option 2 ID : 4410096368145

Option 3 ID : 4410096368144

Option 4 ID : 4410096368146

यह सुझाव देता है कि पुरुषोचित (masculine) और स्त्रीचित (feminine) सीखी जाती हैं और वे अनिवार्य रूप से जैविक लक्षणों से संबंधित नहीं होती हैं?

रिप्रेक्ष्य

तेक परिप्रेक्ष्य

स्त्रीय परिप्रेक्ष्य

परिप्रेक्ष्य

Question ID : 4410091609088

Option 1 ID : 4410096355269

Option 2 ID : 4410096355270

Option 3 ID : 4410096355268

Option 4 ID : 4410096355271

ice is grammatically correct and appropriate in a research paper

- finding contribute to deeper understand of topic
- findings contribute to a deeper understanding of the topic.
- js are contributing for deeper understanding topic
- ndings contributes to more understandings

Question ID : 4410091609355
 Option 1 ID : 4410096356347
 Option 2 ID : 4410096356345
 Option 3 ID : 4410096356346
 Option 4 ID : 4410096356344

माज में उच्च शिक्षा की पहुँच और गुणवत्ता को किस प्रकार सर्वाधिक प्रभावित

- ों को दिए जाने वाले पाठ्यक्रमों की विविधता में कमी
- स्थानों का विस्तार और प्रतिस्पर्धा
- : शैक्षिक आदान-प्रदान पर प्रतिबंध
- भा के प्रावधान पर राज्य का एकाधिकार

Question ID : 4410091611881
 Option 1 ID : 4410096366364
 Option 2 ID : 4410096366363
 Option 3 ID : 4410096366366
 Option 4 ID : 4410096366365

; विद्यार्थियों से 1890 के दशक के एक काल्पनिक व्यक्ति के लिए डायरी
 को कहता है, जिसमें अर्थशास्त्र, सामाजिक वर्ग और प्रौद्योगिकी को शामिल
 स प्रकार के नियत-कार्य का प्राथमिक लाभ क्या है?

- ार्थियों को प्रोत्साहित करता है।
- के समय को कम करता है।
- क ज्ञान पर केंद्रित होता है।
- ए किसी पूर्व ज्ञान की आवश्यकता नहीं होती है।

Question ID : 4410091604864
 Option 1 ID : 4410096338622
 Option 2 ID : 4410096338620
 Option 3 ID : 4410096338621
 Option 4 ID : 4410096338623

के संदर्भ में, किसी विद्यालय का प्रधान शिक्षक सामान्यतः शैक्षिक
; बीच सहयोग को किस प्रकार बढ़ावा देता है?

- मुरक्षण की देखरेख करके
- अभिलेखों को ट्रैक करके
- क कर्तव्यों को निर्दिष्ट करके
- कर्मचारी बैठकें स्थगित करके

Question ID : 4410091623883
Option 1 ID : 4410096414115
Option 2 ID : 4410096414113
Option 3 ID : 4410096414112
Option 4 ID : 4410096414114

तिविधियों के माध्यम से विद्यार्थियों की प्रगति का मूल्यांकन करते समय,
कक्षा में कौन-सी विधि सबसे विश्वसनीय आकलन प्रदान करती है?

- क्रियात्मक प्रश्नोत्तरी (Interactive quizzes)
- पूछताछ (Oral questioning)
- ार्यपत्रक (Printed worksheets)
- िय चर्चा (Peer discussion)

Question ID : 4410091637849
Option 1 ID : 4410096468956
Option 2 ID : 4410096468957
Option 3 ID : 4410096468954
Option 4 ID : 4410096468955

संगिकता और गहनता को अधिकतम करने के लिए अपनी सामाजिक विज्ञान
नर्सभिकल्प (re design) करना चाहता है। इस प्रयोजन के लिए सामाजिक
। प्रकृति और क्षेत्र के अनुप्रयोग का सबसे अच्छा उदाहरण कौन-सी रणनीति है?

- ाकक्ष अनुदेश और अधिगम गतिविधियों के लिए प्राथमिक सामग्री के रूप में केवल पाठ्यपुस्तक सारांशों
- ामाजिक विज्ञान विषय से विविक्त, विसंदर्भित तथ्यों के इर्द-गिर्द पाठ्यचर्या की संरचना करना, जो रटकर देती है।
- यगत इकाइयों की संरचना करना जो केस स्टडी और परिपृच्छा-आधारित अधिगम के माध्यम से क और पर्यावरणीय मुद्दों को जोड़ती हैं।
- विज्ञान, समाजशास्त्र और अर्थशास्त्र को पूरी तरह से स्वायत्त और विद्या शाखा-विशिष्ट मॉड्यूल के रूप में

Question ID : 4410091614829
Option 1 ID : 4410096378120
Option 2 ID : 4410096378118
Option 3 ID : 4410096378117
Option 4 ID : 4410096378119

प्रक्रिया में निम्नलिखित में से कौन-सा पहला चरण है?

ना

शल को परिभाषित करना

ण

Question ID : 4410091624767
Option 1 ID : 4410096417610
Option 2 ID : 4410096417609
Option 3 ID : 4410096417607
Option 4 ID : 4410096417608

से कौन-सा एक प्रमुख विषय-वस्तु क्षेत्र है, जो सामान्यतः प्राथमिक पर्यावरण
र्या में शामिल है?

विवरणीय रसायन विज्ञान

प्रबंधन प्रणालियाँ

विद्यालय और पड़ोस

आंकड़ों का सांख्यिकीय विश्लेषण

Question ID : 4410091689989
Option 1 ID : 4410096666246
Option 2 ID : 4410096666248
Option 3 ID : 4410096666247
Option 4 ID : 4410096666249

न का प्राथमिक केंद्र-बिंदु क्या है?

सामाजिक विज्ञान विषयों का एकीकरण

क-सांस्कृतिक प्रणालियों के भीतर मानवीय मामले

वेज्ञान और उनके अनुप्रयोग

शेक नागरिकता का विकास

Question ID : 4410091637660
Option 1 ID : 4410096468229
Option 2 ID : 4410096468226
Option 3 ID : 4410096468227
Option 4 ID : 4410096468228

से कौन-सा नवीकरणीय संसाधन भारत के ग्रामीण क्षेत्रों में विद्युत उत्पादन के
उपयोग किया जाता है?

रूप में उपयोग के लिए प्राकृतिक गैस को भूमिगत भंडारों से निकाला जाता है।

उत्पादन के लिए विद्युत संयंत्रों में कोयले का दहन किया जाता है।

में यूरेनियम से परमाणु ऊर्जा उत्पन्न की जाती है।

वेद्युतीकरण के लिए सौर ऊर्जा पैनलों के माध्यम से सौर ऊर्जा का उपयोग किया जाता है।

Question ID : 4410091646434
Option 1 ID : 4410096501970
Option 2 ID : 4410096501972
Option 3 ID : 4410096501973
Option 4 ID : 4410096501971

के कौन-सा, पाठ योजना में अधिगम उद्देश्यों और शिक्षण गतिविधियों के बीच
न वर्णन करता है?

उद्देश्य, शिक्षण गतिविधियों को निर्धारित करते हैं

; गतिविधियों को निर्धारित करते हैं

तिविधियाँ, अधिगम उद्देश्यों को निर्धारित करती हैं

में की अभिलेखि दोनों को निर्धारित करती हैं

Question ID : 4410091604895

Option 1 ID : 4410096338745

Option 2 ID : 4410096338747

Option 3 ID : 4410096338744

Option 4 ID : 4410096338746

के कौन-सा शिक्षण उपागम स्नातक विद्यार्थियों को वैज्ञानिक यथार्थता और
f को सुनिश्चित करते हुए, बहु परिप्रेक्ष्यों से पर्यावरणीय समस्याओं का
। से विश्लेषण करने में सबसे प्रभावी रूप से सक्षम बनाता है?

गम

f और समावेशी उपागम

त्मक उपागम

उपागम

Question ID : 4410091623932

Option 1 ID : 4410096414309

Option 2 ID : 4410096414311

Option 3 ID : 4410096414308

Option 4 ID : 4410096414310

नीति नियोजन और कार्यक्रम निर्माण का प्रबंधन मुख्यतः किस स्तर पर किया

र (District Level)

य स्तर (District Level)

र (Block Level)

स्तर (School Level)

Question ID : 4410091624043

Option 1 ID : 4410096414752

Option 2 ID : 4410096414753

Option 3 ID : 4410096414754

Option 4 ID : 4410096414755

प्रक्रिया में पाठ्यपुस्तकों की प्राथमिक भूमिका क्या है?

का मार्गदर्शन करने के लिए संरचित विषय-वस्तु प्रदान करना

के स्पष्टीकरण की आवश्यकता को प्रतिस्थापित करना

व्यपन्नता अभ्यासों के समूह के रूप में कार्य करना

वर्षों के चिंतन को स्मरण किए गए तथ्यों तक सीमित रखना

Question ID : 4410091623986

Option 1 ID : 4410096414524

Option 2 ID : 4410096414525

Option 3 ID : 4410096414527

Option 4 ID : 4410096414526

सा कथन शिक्षण सामग्री के संरेखण का सर्वोत्तम वर्णन करता है?

प्रशिक्षक की वरीयताओं के अनुदिश संरेखित होते हैं।

सम उद्देश्यों, मूल्यांकनों और गतिविधियों के साथ संरेखित होने चाहिए।

पाठ्यक्रमों में समान होने चाहिए।

क्रम के अन्य सभी अवयवों को प्रतिस्थापित कर सकते हैं।

Question ID : 4410091608435

Option 1 ID : 4410096352654

Option 2 ID : 4410096352652

Option 3 ID : 4410096352653

Option 4 ID : 4410096352655

! अंग्रेजी शिक्षण में ICT के उपयोग का मुख्य लाभ क्या है?

यात्मक और मल्टीमीडिया आधारित अधिगम गतिविधियों के माध्यम से शिक्षार्थियों को व्यस्त रखने में मदद

को पूर्णतः प्रतिस्थापित करना और विद्यार्थियों को बिना निर्देशन के सीखने देना

बदावली और व्याकरण नियमों की रटन स्मृति पर ध्यान केंद्रित करना

शासनिक कार्यों और कक्षा में अभिलेखों के रक्षण के लिए इसका उपयोग करना

Question ID : 4410091547993

Option 1 ID : 4410096114685

Option 2 ID : 4410096114686

Option 3 ID : 4410096114687

Option 4 ID : 4410096114688

ग्रेजी में 'Describing People' विषय को कई पाठों में विभाजित करती है जो ली से लेकर पूर्ण वाक्य निर्माण तक की शिक्षा प्रदान करते हैं। कई सप्ताहों में निश्चित करने के लिए, वह किस नियोजन प्रक्रिया का अनुसरण कर रही है?

संबंधित दक्षताओं को क्रमबद्ध करने वाली यूनिट योजना विकसित करना।

र केंद्रित एकल-अवधि की पाठ योजना तैयार करना।

दिनचर्या के लिए एक दैनिक अनुसूची बनाना।

विद्यार्थियों के लिए एक उपचारात्मक कार्यपत्रक तैयार करना।

Question ID : 4410091617624

Option 1 ID : 4410096389396

Option 2 ID : 4410096389395

Option 3 ID : 4410096389397

Option 4 ID : 4410096389398

रिणाम मुक्तोत्तर प्रश्नों से संबंधित है?

द्वारा प्रदत्त हलों पर निर्भरता

रीय चिंतन का विकास

ई प्रक्रियाओं का यांत्रिक अनुप्रयोग

ार्थियों द्वारा दिए गए एकसमान उत्तर

Question ID : 4410091602722

Option 1 ID : 4410096330463

Option 2 ID : 4410096330460

Option 3 ID : 4410096330462

Option 4 ID : 4410096330461

यन को एक ऐसे अनुप्रयुक्त क्षेत्र (applied field) के रूप में सर्वोत्तम तरीके से सकता है जो सामाजिक निर्णय लेते समय किन विचारों को एकीकृत करता है?

ऋ वास्तविकताओं से स्वतंत्र रूप से अध्ययन किए गए अमूर्त सिद्धांत

ऋ जीवन के सामाजिक संदर्भों में ज्ञान, कौशल और महत्व

ऋ सहलग्नता के बिना पढ़ाए जाने वाले विविक्त अकादमिक विषय

ऋ सामाजिक विज्ञान विद्याशाखाओं से पृथक तथ्यात्मक जानकारी

Question ID : 4410091603085

Option 1 ID : 4410096331538

Option 2 ID : 4410096331536

Option 3 ID : 4410096331539

Option 4 ID : 4410096331537

अंग्रेजी अध्यापन में ICT के उपयोग का मुख्य लाभ क्या है?

मार्गदर्शन की आवश्यकता को समाप्त करना

गैरों की सहभागिता में कमी लाना

को अधिक अन्तर्क्रियात्मक और व्यक्तिपरक बनाना

तकॉों को पूर्ण रूप से प्रतिस्थापित करना

Question ID : 4410091553470

Option 1 ID : 4410096136553

Option 2 ID : 4410096136551

Option 3 ID : 4410096136552

Option 4 ID : 4410096136554

पर स्कूलों के प्रचालन को खतरे में डालने वाले एक अप्रत्याशित स्वास्थ्य संकट हुए, किस चरण में निदेशक को सक्रिय रूप से मानक प्रचालन क्रियाविधियों को गैर सुभेद्यता का आकलन करने की आवश्यकता होती है?

र विश्लेषण गतिविधियाँ

ई रोकथाम चरण

नुक्रिया संचार

साधान वार्ता

Question ID : 4410091550849

Option 1 ID : 4410096125675

Option 2 ID : 4410096125677

Option 3 ID : 4410096125676

Option 4 ID : 4410096125678

से कौन-सा भारतीय शिक्षा प्रणाली में समावेशन का एक उदाहरण है?

बच्चों को नियमित कक्षाओं में प्रवेश देना

विधियों के लिए लड़कों और लड़कियों को अलग करना

मानीय भाषा में पढ़ाना

ोष पृष्ठभूमि के विद्यार्थियों को प्रवेश देने से मना करना

Question ID : 4410091627935

Option 1 ID : 4410096429927

Option 2 ID : 4410096429928

Option 3 ID : 4410096429926

Option 4 ID : 4410096429929

दो प्रमुख विशेषताओं को यथार्थता और समस्या-समाधान के लिए अत्यावश्यक

- तर्क तथा प्रतीकों और भाषा का व्यवस्थित उपयोग
- क्रियाओं की गणना और स्मरण करने की स्पीड
- ऐतिहासिक विकास और सांस्कृतिक संदर्भ
- क व्यंजक और संकल्पनाओं की व्यक्तिगत व्याख्या

Question ID : 4410091603154
Option 1 ID : 4410096331812
Option 2 ID : 4410096331814
Option 3 ID : 4410096331815
Option 4 ID : 4410096331813

निम्नलिखित में से कौन-सा एक, संक्षिप्त रूप LSRW के पूर्ण रूप के भाग में ?

- ng (लिसनिंग)
- g (रीडिंग)
- nbering (रीमेम्बरिंग)
- ng (स्पीकिंग)

Question ID : 4410091687733
Option 1 ID : 4410096657718
Option 2 ID : 4410096657720
Option 3 ID : 4410096657721
Option 4 ID : 4410096657719

लेए पाठ्यपुस्तकों और अधिगम के संसाधनों का चयन करते समय निम्नलिखित
थमिक लक्ष्य होता है?

- स्तु का चयन करते समय शिक्षक की व्यक्तिगत प्राथमिकताओं को ध्यान में रखना।
- श्रित करना कि संसाधन समावेशी हों और सभी विद्यार्थियों के प्रतिनिधिक हों।
- सी विषय-वस्तु पर ध्यान केंद्रित करना जो सभी विद्यार्थियों के लिए समझने में आसान हो।
- श्रेत करना कि संसाधन सबसे प्रतिभाशाली विद्यार्थियों के शैक्षणिक हितों को पूरा करते हैं।

Question ID : 4410091582032
Option 1 ID : 4410096249393
Option 2 ID : 4410096249395
Option 3 ID : 4410096249396
Option 4 ID : 4410096249394

ज्ञानिक ज्ञान माने जाने के लिए कौन-सा अभिलक्षण अनिवार्य है?

II और पारंपरिक होना चाहिए।

IPुस्तकों में लिखा होना चाहिए।

IV और अवलोकन पर आधारित होना चाहिए।

IIIभी की सहमति होनी चाहिए।

Question ID : 4410091640283

Option 1 ID : 4410096478332

Option 2 ID : 4410096478333

Option 3 ID : 4410096478330

Option 4 ID : 4410096478331

शिक्षा पैनल ने पाया कि पुरुष पात्रों को सदैव नायक के रूप में दर्शाया जाता है, महिलाओं को देखभालकर्ता के रूप में दर्शाया जाता है। जेंडर संबंधी रूढ़ियों को समाप्त करने के अनुसार, पैनल के लिए सबसे प्रभावी पहला कदम क्या होगा?

IA. पाठकों में विद्यमान छवियों और भाषा की जेंडर संबंधी तटस्थता के लिए संपरीक्षा करना

IB. पाठकों को जोड़कर विद्यमान कहानियों को प्रतिधारित करना

IC. पाठकों में बिना किसी परिवर्तन के उनके नामों में परिवर्तन करना

ID. पाठकों की संख्या में वृद्धि करना

Question ID : 4410091634030

Option 1 ID : 4410096454215

Option 2 ID : 4410096454216

Option 3 ID : 4410096454217

Option 4 ID : 4410096454214

शिक्षक संकल्पनात्मक समझ और व्यावहारिक कौशल दोनों को बढ़ावा देना लेखित में से कौन-सी कार्यनीति इस दोहरे उद्देश्य के लिए विज्ञान किट का उपयोग करती है?

IA. धारित प्रयोगों को सैद्धांतिक चर्चाओं के साथ एकीकृत करना

IB. एक अभ्यासों से सिद्धांत अनुदेश को पृथक करना

IC. मंत्र विद्यार्थियों को स्व-अध्ययन के लिए किट प्रदान करना

ID. प्रदेश नियमावली पर विशेष रूप से ध्यान केंद्रित करना

Question ID : 4410091626529

Option 1 ID : 4410096424488

Option 2 ID : 4410096424491

Option 3 ID : 4410096424489

Option 4 ID : 4410096424490

में रचनात्मक आकलन (formative assessment) किस पर केंद्रित होता है?

र्ि निर्धारण (Setting curriculum)

र्ि प्रदान करना (Awarding certificates)

डिंग (Final grading)

तिपुष्टि (Ongoing feedback)

Question ID : 4410091633710
Option 1 ID : 4410096452933
Option 2 ID : 4410096452932
Option 3 ID : 4410096452931
Option 4 ID : 4410096452930

में कौन-सा, विद्यार्थी आकलन में उपयोग की जाने वाली अवलोकन तकनीक का ता है?

पयोग केवल कक्षा के बाहर ही किया जा सकता है।

गम के आकलन के लिए केवल विद्यार्थियों की लिखित प्रतिक्रियाओं पर निर्भर करता है।

र्थियों के आकस्मिक अवलोकन पर आधारित एक अनियोजित गतिविधि है।

द्यार्थियों के व्यवहार का व्यवस्थित, पूर्व नियोजित अभिलेखन शामिल होता है।

Question ID : 4410091581847
Option 1 ID : 4410096248628
Option 2 ID : 4410096248626
Option 3 ID : 4410096248627
Option 4 ID : 4410096248629

में कौन-सी अवधारणा, यह व्याख्या करती है कि समाज किसी व्यक्ति के पुरुष र् में पहचाने जाने के आधार पर व्यवहारों और भूमिकाओं के लिए अपेक्षाओं को है?

क सापेक्षवाद

र्ि सामाजिक निर्माण

खवाद

नेयतत्ववाद

Question ID : 4410091618681
Option 1 ID : 4410096393598
Option 2 ID : 4410096393595
Option 3 ID : 4410096393597
Option 4 ID : 4410096393596

से कौन-सा, युवा शिक्षार्थियों में पठन कौशल को विकसित करने के लिए सबसे

1 कार्यपत्रक

2 फ्लैशकार्ड

3 ऑडियो रिकॉर्डिंग

4 कथो वाली कहानी की किताबें

Question ID : 4410091669657

Option 1 ID : 4410096589515

Option 2 ID : 4410096589514

Option 3 ID : 4410096589512

Option 4 ID : 4410096589513

गतिविधि-आधारित और रचनावादी उपागम प्रभावी क्यों है?

1 शिक्षार्थियों को केवल व्यक्तिगत डेस्क कार्य तक सीमित रखता है।

2 गतिविधि-आधारित उदाहरणों के बिना कठस्थीकरण की आवश्यकता होती है।

3 और समूह परिचर्चाओं को हतोत्साहित करता है।

4 गतिविधि-आधारित अनुभवों के माध्यम से ज्ञान अर्जन में सहायक है।

Question ID : 4410091641197

Option 1 ID : 4410096481942

Option 2 ID : 4410096481944

Option 3 ID : 4410096481943

Option 4 ID : 4410096481941

से कौन-सा उपागम शिक्षार्थियों को गणित में अपने स्वयं के बोध की रचना करने पर बल देता है?

1 सी

2 ष

3 गदी

4 मक

Question ID : 4410091635712

Option 1 ID : 4410096460835

Option 2 ID : 4410096460836

Option 3 ID : 4410096460837

Option 4 ID : 4410096460838

शिक्षा परिवेश में, विशेष आवश्यकता वाले बच्चों के बीच अधिगम कठिनाइयों की संबोधित करते समय शिक्षकों के समक्ष प्रकट होने वाली प्राथमिक चुनौती क्या

तिभाशाली विद्यार्थियों पर ध्यान केंद्रित करना

बनाए रखने के लिए अधिगम अंतरों की उपेक्षा करना

यक्तिगत आवश्यकताओं के अनुरूप शिक्षण विधियों को अनुकूलित करना

एकसमान संसाधन उपलब्ध कराना

Question ID : 4410091618699

Option 1 ID : 4410096393667

Option 2 ID : 4410096393670

Option 3 ID : 4410096393669

Option 4 ID : 4410096393668

य शिक्षण के लिए रचनावादी और गतिविधि-आधारित पद्धतियों का उपयोग लिखित में से कौन-सा कक्षा अभ्यास इन उपागमों के साथ सर्वाधिक

प्रतिरूप पर आधारित पाठ्यपुस्तक का एक अध्याय पढ़ते हैं और अध्याय के अंत में दिए गए प्रश्नों के उत्तर देते हैं।

समूह सहयोग का उपयोग करके वास्तविक दुनिया की समस्या के लिए गणितीय प्रतिरूप को डिजाइन ग करते हैं।

5, विद्यार्थी को अवलोकन कराने के लिए बोर्ड पर वास्तविक दुनिया की प्रतिरूप समस्या को हल करता है।

5, उद्योग में उपयोग किए जाने वाले विभिन्न गणितीय प्रतिरूप पर विस्तृत व्याख्यान देते हैं।

Question ID : 4410091626515

Option 1 ID : 4410096424434

Option 2 ID : 4410096424432

Option 3 ID : 4410096424435

Option 4 ID : 4410096424433

विद्यार्थी ने बहु-स्तरीय मूल्यांकन प्रक्रिया पूर्ण कर ली है और प्रमाणन प्राप्त किया और RTE दिशानिर्देशों के अनुसार, विद्यालय को अब विद्यार्थी की समावेशी त करने के लिए कौन-सा चरण सुनिश्चित करना चाहिए?

ट्रेकिंग के लिए प्रत्येक पद पर केवल व्यवहार संबंधी जाँचसूची का संचालन करना

रूप से बार-बार की जाने वाली प्रशस्त (PRASHAST) स्क्रीनिंग के लिए विद्यार्थी को संदर्भित करना

क्षेत्रगत शिक्षा योजना विकसित करना और सहायता या उपकरण प्रदान करना

सायता प्रदान करने से पहले घरेलू सर्वेक्षण डेटा की प्रतीक्षा करना

Question ID : 4410091619242

Option 1 ID : 4410096395834

Option 2 ID : 4410096395832

Option 3 ID : 4410096395833

Option 4 ID : 4410096395835