



GOVT. OF NCT OF DELHI  
Delhi Subordinate Services Selection Board  
FC-18, Institutional Area, Karkardooma, Delhi – 110092.  
[www.dsssb.delhigovt.nic.in](http://www.dsssb.delhigovt.nic.in)

Participant ID	
Participant Name	
Test Center Name	Aadarsh Pariksha Kendra CENTER B - Gate No 2 - Noida Sector 64
Test Date	17/02/2026
Test Time	1:00 PM - 3:00 PM
Subject	Assistant Teacher Primary

Section : General Intelligence and Reasoning Ability

Q.1 नीचे संख्याओं के दो समुच्चय दिए गए हैं। संख्याओं के प्रत्येक समुच्चय में, पहली संख्या पर निश्चित गणितीय संक्रियाएं करके दूसरी संख्या प्राप्त की गई है। इसी प्रकार, दूसरी संख्या पर निश्चित गणितीय संक्रियाएं करके तीसरी संख्या प्राप्त की गई है, और इसी प्रकार आगे की भी संक्रियाएं प्राप्त की गई हैं। दिए गए विकल्पों में से कौन-सा विकल्प, उन्हीं संक्रियाओं का अनुसरण करता है, जो दिए गए समुच्चयों में अनुसरण की गई है?

(नोट: संख्याओं को उनके घटक अंकों में तोड़े बिना, पूर्ण संख्याओं पर संक्रियाएँ की जानी चाहिए। उदाहरण के लिए 13 लीजिए, 13 पर संक्रियाएँ, जैसे कि 13 में जोड़ना/घटाना/गुणा करना आदि, की जा सकती है। 13 को 1 और 3 में तोड़ना तथा फिर 1 और 3 पर गणितीय संक्रियाएँ करने की अनुमति नहीं है।)

44 - 308 - 307 - 317  
28 - 196 - 195 - 205

- Ans
- 1. 38 - 304 - 298 - 308
  - 2. 41 - 287 - 279 - 289
  - 3. 50 - 300 - 294 - 303
  - 4. 16 - 112 - 111 - 121

Adda247

Adda247

# Test Prime

**ALL EXAMS, ONE SUBSCRIPTION**



**1,00,000+**  
Mock Tests



**Personalised  
Report Card**



**Unlimited  
Re-Attempt**



**600+**  
Exam Covered



**25,000+** Previous  
Year Papers



**500%**  
Refund



**ATTEMPT FREE MOCK NOW**

Q.2 एक निश्चित कूट भाषा में, 'BAIL' को '1856' के रूप में कूटबद्ध किया जाता है और 'LAID' को '8517' के रूप में कूटबद्ध किया जाता है। उस भाषा में 'D' के लिए कूट क्या होगा?

- Ans
- 1. 5
  - 2. 8
  - 3. 6
  - 4. 7

Q.3 निम्नलिखित में से कौन-सा अक्षर-संख्या समूह दी गई श्रृंखला में प्रश्न चिह्न (?) को प्रतिस्थापित करके इसे तार्किक रूप से पूर्ण बना देगा?

IQX33 , LTA49 , OWD65 , RZG81 , ?

- Ans
- 1. VCJ97
  - 2. UCJ97
  - 3. UDJ97
  - 4. UCK97

Q.4 H, U, S, B, A, N और D में से प्रत्येक की परीक्षा सोमवार से शुरू होकर रविवार को समाप्त होने वाले एक ही सप्ताह के अलग-अलग दिन है। B और N के बीच केवल दो लोगों की परीक्षा है। S और A के बीच केवल दो लोगों की परीक्षा है। D और A के बीच केवल दो लोगों की परीक्षा है। D के बाद किसी की परीक्षा नहीं है। H की परीक्षा U से पहले किसी एक दिन है। N की परीक्षा U के ठीक बाद है। बुधवार को किसकी परीक्षा है?

- Ans
- 1. H
  - 2. B
  - 3. S
  - 4. D

Q.5 उस युग्म का चयन कीजिए जो नीचे दिए गए युग्मों के समान पैटर्न का अनुसरण करता है। दोनों युग्म समान पैटर्न का अनुसरण करते हैं।

JIF-IHE  
ONK-NMJ

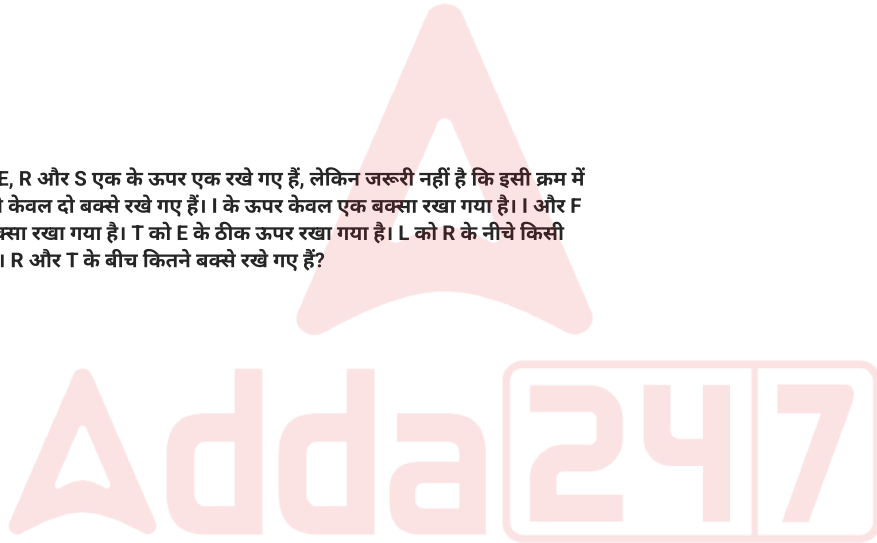
- Ans
- 1. AZW-YYU
  - 2. AYU-ZYV
  - 3. AYU-YXU
  - 4. AZW-ZYV

Q.6 बिपाशा अपनी कक्षा में ऊपर से 13वें और नीचे से 5वें स्थान पर है। उसकी कक्षा में कुल कितने विद्यार्थी हैं?

- Ans
- 1. 17
  - 2. 16
  - 3. 15
  - 4. 18

Q.7 सात बक्से F, I, L, T, E, R और S एक के ऊपर एक रखे गए हैं, लेकिन जरूरी नहीं है कि इसी क्रम में रखे गए हों। S के नीचे केवल दो बक्से रखे गए हैं। I के ऊपर केवल एक बक्सा रखा गया है। और F के बीच केवल एक बक्सा रखा गया है। T को E के ठीक ऊपर रखा गया है। L को R के नीचे किसी स्थान पर रखा गया है। R और T के बीच कितने बक्से रखे गए हैं?

- Ans
- 1. चार
  - 2. दो
  - 3. तीन
  - 4. एक



Q.8 यदि शब्द THURSDAY के प्रत्येक अक्षर को अंग्रेजी वर्णमाला क्रम में व्यवस्थित किया जाए, तो कितने अक्षरों की स्थिति अपरिवर्तित रहेगी?

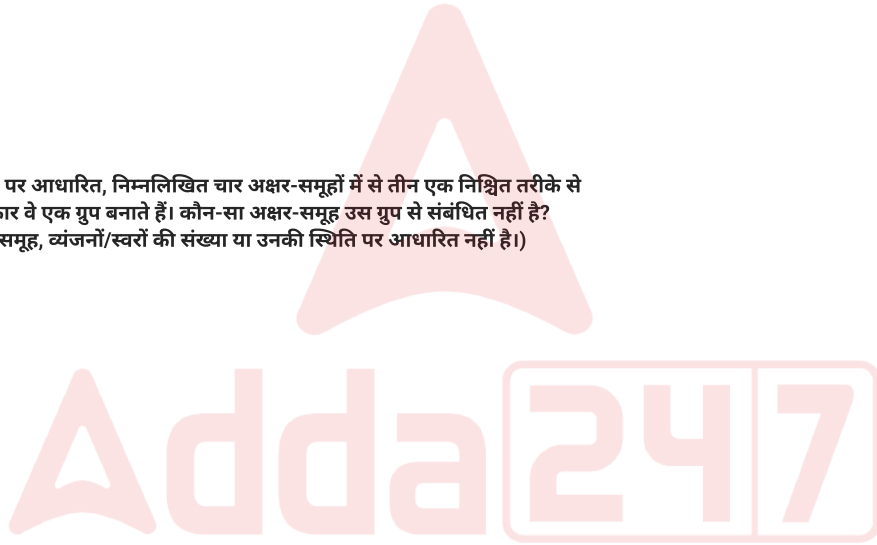
- Ans  1. तीन  
 2. एक  
 3. दो  
 4. एक की भी नहीं

Q.9 शब्द AZOTEMIA में प्रत्येक स्वर को अंग्रेजी वर्णमाला क्रम में उसके ठीक बाद वाले अक्षर से बदल दिया जाता है और प्रत्येक व्यंजन को अंग्रेजी वर्णमाला क्रम में उसके ठीक पहले वाले अक्षर को छोड़कर अगले अक्षर से बदल दिया जाता है। निम्नलिखित में से कौन-सा अक्षर इस प्रकार बने अक्षरों के नए समूह में ठीक दो बार दिखाई देगा?

- Ans  1. P  
 2. F  
 3. B  
 4. R

Q.10 अंग्रेजी वर्णमाला क्रम पर आधारित, निम्नलिखित चार अक्षर-समूहों में से तीन एक निश्चित तरीके से समान हैं और इस प्रकार वे एक गुप बनाते हैं। कौन-सा अक्षर-समूह उस गुप से संबंधित नहीं है? (नोट: असंगत अक्षर-समूह, व्यंजनों/स्वरों की संख्या या उनकी स्थिति पर आधारित नहीं है।)

- Ans  1. DFB  
 2. YBW  
 3. NPL  
 4. GIE



Q.11 दी गई शृंखला में '?' के स्थान पर क्या आएगा?

397 398 371 496 ? 882

- Ans
- 1. 517
  - 2. 150
  - 3. 153
  - 4. 596

Q.12 निम्नलिखित अक्षर शृंखला का संदर्भ लीजिए और नीचे दिए गए प्रश्न का उत्तर दीजिए। गिनती केवल बाएं से दाएं की जानी चाहिए।

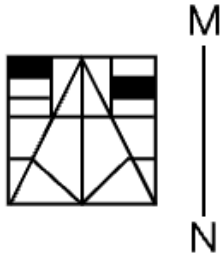
(बाएं) M R E S I C G T B Y Z O U K X W A Q D F H (दाएं)

ऐसे कितने व्यंजन हैं, जिनमें से प्रत्येक के ठीक पहले एक स्वर और ठीक बाद में एक व्यंजन आता है?

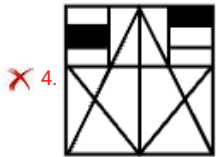
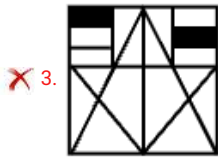
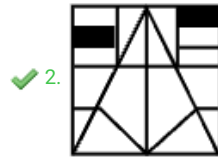
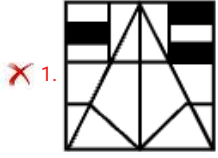
- Ans
- 1. 2
  - 2. 1
  - 3. 3
  - 4. 4



Q.13 जब दर्पण को नीचे दर्शाए गए अनुसार MN पर रखा जाता है, तो दी गई आकृति के सही दर्पण प्रतिबिंब का चयन करें।



Ans



Q.14 यदि 'A' का अर्थ '+' है, 'B' का अर्थ 'x' है, 'C' का अर्थ '+' है और 'D' का अर्थ '-' है, तो निम्नलिखित समीकरण में प्रश्न-चिह्न '?' के स्थान पर क्या आएगा?  
18 B 2 D 4 A 2 C 8 = ?

- Ans
- ✗ 1. 38
  - ✓ 2. 42
  - ✗ 3. 34
  - ✗ 4. 40

Q.15 I और J बहनें हैं। J का विवाह K से हुआ है। L, K का पिता है। M, L की पत्नी है। N, M की पुत्री है। N का J से क्या संबंध है?

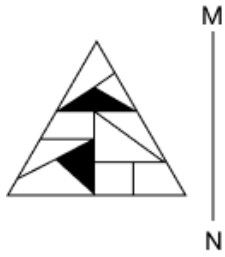
- Ans
- 1. पिता की बहन
  - 2. पति की बहन
  - 3. माता की माता
  - 4. बहन

Q.16 अंग्रेजी वर्णमाला क्रम पर आधारित, निम्नलिखित चार अक्षर-समूहों में से तीन एक निश्चित तरीके से एकसमान हैं और इस प्रकार एक गुप बनाते हैं। कौन-सा अक्षर-समूह उस गुप से संबंधित नहीं है? (नोट: असंगत अक्षर-समूह, व्यंजनों/स्वरों की संख्या या उनकी स्थिति पर आधारित नहीं है।)

- Ans
- 1. LPR
  - 2. ORU
  - 3. BEH
  - 4. KNQ



Q.17 जब दर्पण को चित्रानुसार MN पर रखा जाता है, तो दी गई आकृति के सही दर्पण प्रतिबिंब का चयन कीजिए।

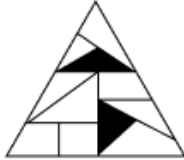


Ans

✗ 1.



✓ 2.



✗ 3.



✗ 4.



Q.18 यह प्रश्न निम्नलिखित शब्दों पर आधारित है।  
PIC WRY WAS JOY

प्रत्येक शब्द में, प्रत्येक स्वर को अंग्रेजी वर्णमाला क्रम में उसके बाद आने वाले दूसरे अक्षर से बदल दिया जाता है और प्रत्येक व्यंजन को अंग्रेजी वर्णमाला क्रम में उसके ठीक पहले आने वाले अक्षर से बदल दिया जाता है। इस प्रकार निर्मित कितने अक्षर समूहों में कोई स्वर नहीं होगा?

- Ans
- 1. चार
  - 2. एक
  - 3. दो
  - 4. तीन

Q.19 H, I, J, K, Q, R और S एक गोल मेज के परितः उसके केंद्र की ओर अभिमुख होकर बैठे हैं। Q के दाईं ओर से गिनने पर Q और I के बीच केवल दो व्यक्ति बैठे हैं। S के दाईं ओर से गिनने पर H और S के बीच केवल तीन व्यक्ति बैठे हैं। I, S के दाईं ओर ठीक पड़ोस में बैठा है। R, K के दाईं ओर ठीक पड़ोस में बैठा है। J के दाईं ओर चौथे स्थान पर कौन बैठा है?

- Ans
- 1. R
  - 2. H
  - 3. K
  - 4. O

Q.20 निम्नलिखित समीकरण में '+' और '-' को आपस में बदल देने पर तथा '-' और 'x' को आपस में बदल देने पर '?' के स्थान पर क्या आएगा?

$$20 - 2 \times 85 + 5 \div 15 = ?$$

- Ans
- 1. 38
  - 2. 28
  - 3. 30
  - 4. 35

Q.1 किस संगठन ने दिसंबर 2025 में फाइटर जेट एस्केप सिस्टम के लिए उच्च गति रॉकेट-स्लेज परीक्षण (high-speed rocket-sled test) किया?

- Ans
- 1. भारतीय अंतरिक्ष अनुसंधान संगठन
  - 2. हिंदुस्तान एयरोनॉटिक्स लिमिटेड
  - 3. भारत इलेक्ट्रॉनिक्स लिमिटेड
  - 4. रक्षा अनुसंधान एवं विकास संगठन

Q.2 भारतीय अंतरिक्ष अनुसंधान संगठन (ISRO) ने किस अंतरिक्ष संगठन के साथ मिलकर सिंथेटिक एपर्चर राडार (NISAR) विकसित किया है, जिसका प्रक्षेपण जून 2025 में निर्धारित किया गया था?

- Ans
- 1. राष्ट्रीय वैमानिकी और अंतरिक्ष प्रशासन (National Aeronautics and Space Administration)
  - 2. इजराइल अंतरिक्ष एजेंसी (Israel Space Agency)
  - 3. लक्ज़मबर्ग अंतरिक्ष एजेंसी (Luxembourg Space Agency)
  - 4. कनाडाई अंतरिक्ष एजेंसी (Canadian Space Agency)

Q.3 2025 वर्ल्ड सर्कुलर इकोनॉमी फोरम (World Circular Economy Forum) की मेजबानी किस शहर ने की थी?

- Ans
- 1. हेल्सिंकी, फिनलैंड
  - 2. साओ पाउलो, ब्राज़ील
  - 3. टोक्यो, जापान
  - 4. नैरोबी, केन्या



Q.4 मुहम्मद तुगलक द्वारा निर्मित नई राजधानी जहांपनाह की मुख्य मस्जिद कौन-सी थी?

- Ans
- 1. मक्का मस्जिद
  - 2. बेगमपुरी मस्जिद
  - 3. कुव्वत-उल-इस्लाम मस्जिद
  - 4. मोती मस्जिद

Q.5 Which type of chemical bond is formed by the complete transfer of one or more electrons from one atom to another?

- Ans
- 1. Covalent bond
  - 2. Coordinate bond
  - 3. Metallic bond
  - 4. Ionic bond

Q.6 जोसेफ प्रिस्टली ने 1774 में सबसे पहले किस तत्व की खोज की सूचना दी और उसके कुछ असाधारण गुणों का वर्णन किया?

- Ans
- 1. ऑक्सीजन (Oxygen)
  - 2. नियॉन (Neon)
  - 3. क्रिप्टन (Krypton)
  - 4. हीलियम (Helium)

Q.7 'आत्मनिर्भर भारत रोजगार योजना' \_\_\_\_\_ के एक भाग के रूप में शुरू की गई थी।

- Ans
- 1. आत्मनिर्भर भारत 4.0 पैकेज
  - 2. आत्मनिर्भर भारत 3.0 पैकेज
  - 3. आत्मनिर्भर भारत 2.0 पैकेज
  - 4. आत्मनिर्भर भारत 1.0 पैकेज

Q.8 Which material was commonly used to make Harappan seals?

Ans  1. Steatite

2. Gold

3. Copper

4. Clay

Q.9 कृष्णदेवराय ने अपने सैन्य अभियानों के दौरान सबसे पहले किस शत्रु राज्य की सेनाओं को परास्त किया था?

Ans  1. अहमदनगर

2. बेरार

3. बीजापुर

4. गोलकोंडा


Q.10 भारतीय संविधान के किस अनुच्छेद में यह उल्लेख है कि मुख्यमंत्री की सलाह पर राज्यपाल द्वारा मंत्रियों की नियुक्ति की जाएगी?

Ans  1. अनुच्छेद 164

2. अनुच्छेद 166

3. अनुच्छेद 162

4. अनुच्छेद 160



Q.11 Which of the statements given below is/are NOT correct with respect to the 73<sup>rd</sup> Constitutional Amendment Act, 1992?

1. It provided constitutional status to Panchayati Raj Institutions (PRIs).
2. It added Part IX to the Constitution, titled "The Panchayats."
3. It mandates the reservation of one-third of seats for women in Panchayats and Municipalities.


- Ans
- 1. 1, 2, and 3
  - 2. 1 and 2 only
  - 3. Only 2
  - 4. Only 3

Q.12 भारतीय रेलवे के निम्नलिखित क्षेत्रीय मुख्यालयों (Zonal Headquarters) में से कौन-सा छत्तीसगढ़ राज्य में स्थित है?

- Ans
- 1. दक्षिण पश्चिम रेलवे
  - 2. दक्षिण-पूर्व मध्य रेलवे
  - 3. पश्चिम मध्य रेलवे
  - 4. दक्षिण मध्य रेलवे

Q.13 2025 ICC ODI क्रिकेट विश्व कप खिताब के लिए भारतीय महिला टीम का नेतृत्व किसने किया?

- Ans
- 1. दीप्ति शर्मा
  - 2. स्मृति मंधाना
  - 3. शेफाली वर्मा
  - 4. हरमनप्रीत कौर



Q.14 साइमन आयोग के विरोध में हुए सार्वजनिक प्रदर्शनों के दौरान, निम्नलिखित में से कौन-सा स्वतंत्रता सेनानी घायल हुआ और बाद में उन्हीं घावों के कारण उसकी मृत्यु हो गई?

- Ans
- 1. बाल गंगाधर तिलक
  - 2. सी. राजगोपालाचारी
  - 3. लाला लाजपत राय
  - 4. मोतीलाल नेहरू

Q.15 निम्नलिखित में से कौन-सा राष्ट्रीय आवास बैंक (NHB) का वित्तीय वर्ष है?

- Ans
- 1. 1 अप्रैल से 31 मार्च तक
  - 2. 1 जनवरी से 31 दिसंबर तक
  - 3. 1 अक्टूबर से 30 सितंबर तक
  - 4. 1 जुलाई से 30 जून तक

Q.16 2011 की जनगणना के अनुसार, भारत की कुल जनसंख्या कितनी थी?

- Ans
- 1. 121.09 करोड़
  - 2. 110.23 करोड़
  - 3. 100.45 करोड़
  - 4. 132.42 करोड़

Q.17 भारत ने 2024 में कनाडा के साथ कूटनीतिक टकराव के बाद कनाडा स्थित अपने उच्चायुक्त को वापस बुला लिया। उस उच्चायुक्त का नाम क्या है?

- Ans
- 1. अरुण बहुगुणा
  - 2. अजय शर्मा
  - 3. संजय वर्मा
  - 4. चिन्मय नाइक

Q.18 भारतीय संविधान का कौन-सा अनुच्छेद, राज्यपाल को मंत्रिपरिषद के निर्णयों से अवगत कराने, राज्य प्रशासन का विवरण प्रदान करने और मांगे जाने पर किसी मामले को मंत्रिपरिषद के विचार के लिए भेजने के बारे में मुख्यमंत्री के उत्तरदायित्व का वर्णन करता है?


- Ans
- 1. अनुच्छेद 145
  - 2. अनुच्छेद 123
  - 3. अनुच्छेद 167
  - 4. अनुच्छेद 134

Q.19 फिलिप्स वक्र \_\_\_\_\_ के बीच संबंध दर्शाता है।

- Ans
- 1. बेरोजगारी और वेतन वृद्धि
  - 2. मजदूरी में वृद्धि और उत्पादकता
  - 3. मुद्रास्फीति और ब्याज दरों
  - 4. मुद्रास्फीति और बेरोजगारी

Q.20 Dockyard was found at which of the following Indus Valley Civilisation cities?

- Ans
- 1. Sutkagan Dor
  - 2. Alamgirpur
  - 3. Lothal
  - 4. Mohenjo Daro



Q.1 भाग के एक प्रश्न में, भाजक, भागफल का 9 गुना और शेषफल का 3 गुना है। यदि शेषफल 18 है, तो भाज्य ज्ञात कीजिए।


- Ans
- 1. 346
  - 2. 342
  - 3. 344
  - 4. 340

Q.2 एक परिवार के 40 kg, 49 kg, 57 kg, 76 kg और 36 kg वजन वाले पांच सदस्यों का औसत वजन ज्ञात कीजिए।

- Ans
- 1. 50.6 kg
  - 2. 53.6 kg
  - 3. 52.6 kg
  - 4. 51.6 kg

Q.3 यदि 8 अंकों की संख्या  $40569p14$ , 3 से विभाज्य है, तो  $p$  का अधिकतम मान ज्ञात कीजिए।

- Ans
- 1. 7
  - 2. 6
  - 3. 5
  - 4. 4



Q.4 X, Y और Z साझेदारी में शामिल होते हैं और उनके हिस्से  $\frac{1}{4} : \frac{1}{16} : \frac{1}{10}$  के अनुपात में हैं। 4 माह बाद, X अपनी पूंजी का एक-चौथाई तथा Z अपनी पूंजी का आधा हिस्सा निकाल लेता है। साझेदारी के पहले दिन से एक वर्ष बाद, ₹2511 का लाभ उनके बीच बाँटा जाता है। लाभ में Z का हिस्सा (₹ में) ज्ञात कीजिए।

- Ans
- 1. 464
  - 2. 493
  - 3. 496
  - 4. 433

Q.5 एक दुकानदार एक थैले का मूल्य ₹3,000 अंकित करता है और उस पर 25% की छूट देता है, फिर भी उसे 20% का लाभ प्राप्त होता है। थैले का क्रय मूल्य ज्ञात कीजिए।

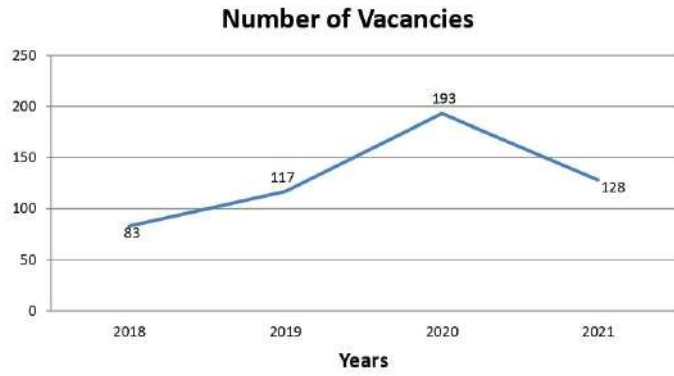
- Ans
- 1. ₹1,600
  - 2. ₹1,925
  - 3. ₹1,800
  - 4. ₹1,875

Q.6 यदि 7, 12, 21 और x समानुपात में हैं, तो x का मान ज्ञात कीजिए।

- Ans
- 1. 27
  - 2. 35
  - 3. 24
  - 4. 36



Q.7 रेखा ग्राफ एक निश्चित कंपनी में अधिकारियों के लिए रिक्तियों की संख्या दर्शाता है। आरेख का अध्ययन करें और निम्नलिखित प्रश्न का उत्तर दें।




Number of Vacancies - रिक्तियों की संख्या  
Years - वर्ष

किस वर्ष, रिक्तियों की संख्या पिछले वर्ष की तुलना में कम थी?

- Ans
- 1. 2019
  - 2. 2021
  - 3. 2018
  - 4. 2020

Q.8 एक स्वास्थ्य क्लब में 40% सदस्य महिलाएं और 60% सदस्य पुरुष हैं। यदि पुरुषों की औसत आयु 55 वर्ष और महिलाओं की औसत आयु 41 वर्ष है, तो सभी सदस्यों की औसत आयु (वर्षों में) कितनी होगी?

- Ans
- 1. 56.2
  - 2. 41.7
  - 3. 49.4
  - 4. 60.2



Q.9 उस घन का आयतन ( $m^3$  में) ज्ञात कीजिए, जिसकी प्रत्येक कोर 19 m की है।

- Ans
- 1. 6678
  - 2. 6859
  - 3. 6780
  - 4. 6686

Q.10 80 km की दूरी तय करने में, सलज को केविन से 5 घंटे अधिक लगते हैं। यदि सलज अपनी चाल दोगुनी कर देता है, तो उसे, केविन से 3 घंटे कम लगेंगे। सलज की मूल चाल ज्ञात कीजिए।

- Ans
- 1. 15 km/hr
  - 2. 5 km/hr
  - 3. 8 km/hr
  - 4. 10 km/hr

Q.11 प्रमोद के दो पौत्र, आशीष और केतन हैं। 13 वर्षीय आशीष को प्रमोद की संपत्ति से कुछ धनराशि मिलती है, और 14 वर्षीय केतन को शेष धनराशि मिलती है। लेकिन आशीष और केतन को यह धनराशि तभी मिलेगी जब वे 24 वर्ष के हो जाएंगे। तब तक, धनराशि किसी बैंक में रखी जाएगी जिस पर 8% वार्षिक दर से ब्याज (वार्षिक रूप से संयोजित) अर्जित होगा। जब दोनों 24 वर्ष के हो जाते हैं, तो उन्हें समान धनराशि मिलती है। यदि प्रमोद के पास कुल धनराशि ₹23,400 थी, तो प्रमोद ने शुरू में केतन को कितनी धनराशि (₹ में) दी थी?

- Ans
- 1. 12,150
  - 2. 12,500
  - 3. 11,000
  - 4. 11,250

Q.12 रमेश, मुकेश को 44% के लाभ पर एक मेज बेचता है और मुकेश उसे जयबिंद को 25% के लाभ पर बेचता है। यदि जयबिंद उसके लिए ₹1,503 का भुगतान करता है, तो रमेश के लिए क्रय मूल्य (₹ में) कितना होगा?

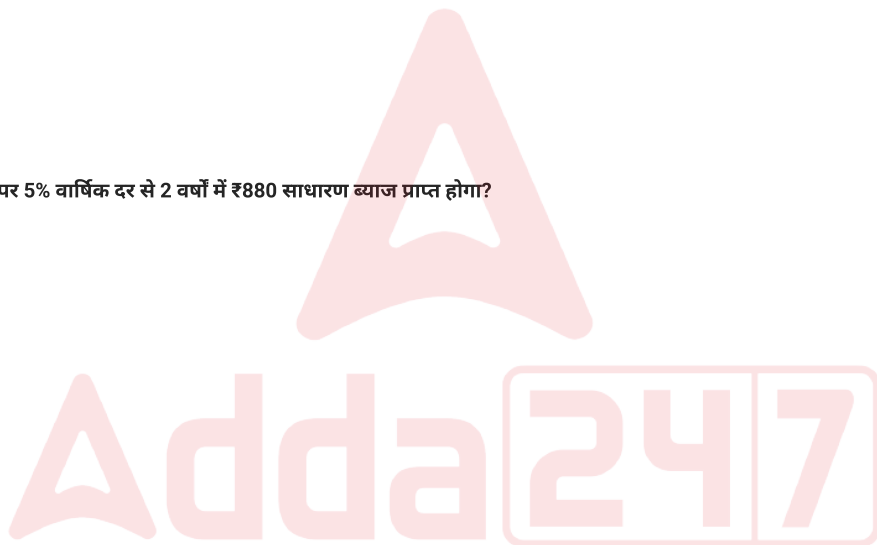
- Ans
- 1. 836
  - 2. 832
  - 3. 837
  - 4. 835

Q.13 82 m लंबी, 51 m ऊंची और 0.9 m मोटी दीवार बनाने के लिए लिए आवश्यक उन ईंटों की संख्या ज्ञात कीजिए जिनमें से प्रत्येक ईंट की माप 54 cm × 16 cm × 82 cm है, जबकि रेत और सीमेंट का मिश्रण दीवार के कुल आयतन का 60% भाग घेरता है।

- Ans
- 1. 21200
  - 2. 21000
  - 3. 21400
  - 4. 21250

Q.14 किस धनराशि (₹ में) पर 5% वार्षिक दर से 2 वर्षों में ₹880 साधारण ब्याज प्राप्त होगा?

- Ans
- 1. 8,800
  - 2. 9,000
  - 3. 8,300
  - 4. 9,200



Q.15 A, B और C एक कार्य को क्रमशः 12 दिन, 15 दिन और 16 दिन में पूरा कर सकते हैं। यदि A, B और C एकसाथ कार्य करते हैं, तो उन्हें कार्य पूरा करने में कितने दिन लगेंगे?

- Ans
- 1.  $3\frac{11}{19}$  दिन
  - 2.  $2\frac{10}{13}$  दिन
  - 3.  $3\frac{14}{15}$  दिन
  - 4.  $4\frac{12}{17}$  दिन

Q.16  $11\text{ cm} \times 4\text{ cm}$  आकार के एक आयताकार कागज को बिना एक दूसरे पर चढ़ाए मोड़ने पर  $4\text{ cm}$  ऊंचाई का एक बेलन बनता है। बेलन का आयतन ज्ञात कीजिए।

( $\pi = \frac{22}{7}$  का उपयोग कीजिए)

- Ans
- 1.  $33.5\text{ cm}^3$
  - 2.  $35.5\text{ cm}^3$
  - 3.  $18.5\text{ cm}^3$
  - 4.  $38.5\text{ cm}^3$

Q.17 तीर्थयात्रियों के एक समूह ने कुल  $140\text{ km}$  की दूरी तीन चरणों में तय करने की योजना बनाई। उन्होंने ट्रेन से  $104\text{ km}$  की दूरी  $120\text{ km/hr}$  की चाल से तय की और बस से  $24\text{ km}$  की दूरी  $40\text{ km/hr}$  की चाल से तय की। शेष यात्रा उन्हें पैदल पूरी करनी है। संपूर्ण यात्रा के दौरान समग्र औसत चाल ठीक  $50\text{ km/hr}$  रहने के लिए उन्हें किस चाल से पैदल चलना होगा?

- Ans
- 1.  $11\text{ km/hr}$
  - 2.  $24\text{ km/hr}$
  - 3.  $10\text{ km/hr}$
  - 4.  $9\text{ km/hr}$

Q.18 80 का 30%, 45 के 20% से कितना अधिक है?

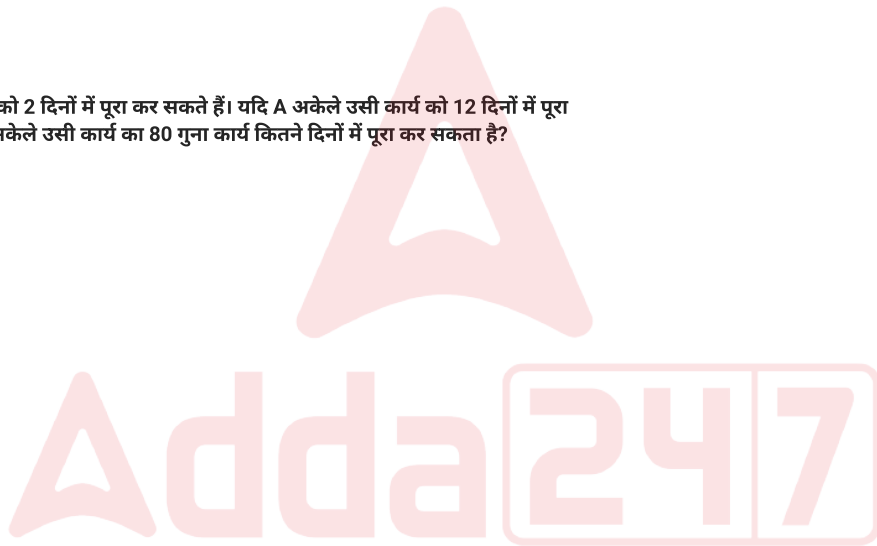
- Ans
- 1. 10
  - 2. 12
  - 3. 17
  - 4. 15

Q.19 एक बेईमान व्यापारी अपने माल को लागत मूल्य पर बेचने का दावा करता है, लेकिन 1 kg के स्थान पर 800 g के भार का उपयोग करता है। उसका लाभ प्रतिशत ज्ञात कीजिए।

- Ans
- 1. 22%
  - 2. 11%
  - 3. 20%
  - 4. 25%

Q.20 A और B किस कार्य को 2 दिनों में पूरा कर सकते हैं। यदि A अकेले उसी कार्य को 12 दिनों में पूरा कर सकता है, तो B अकेले उसी कार्य का 80 गुना कार्य कितने दिनों में पूरा कर सकता है?

- Ans
- 1. 192
  - 2. 112
  - 3. 193
  - 4. 96



Q.1 Identify the misspelt word in the sentence and choose the option that has the correct spelling.  
Although the audience appreciated his analysis, a minor inconvenience disrupted the flow of his argument.

- Ans
- 1. his anelysis, a minor
  - 2. the flow of his arguement.
  - 3. inconvenience disrupted
  - 4. Although the audeince appreciated

Q.2 In the given question, a sentence is divided into different segments. The first segment (S1) is fixed. Choose the most appropriate order from the options given which best rearranges the remaining segments to form a coherent sentence.

S1: When the annual monsoon arrived earlier than predicted,  
P: their sowing schedules, hoping that  
Q: the sudden shift in rainfall patterns would not disrupt  
R: farmers across the region hurried to adjust  
S: the delicate balance required for a successful harvest

- Ans
- 1. QRSP
  - 2. RSPQ
  - 3. SRPQ
  - 4. RPQS

Q.3 Select the most appropriate option to substitute the underlined word segment in the given sentence.  
She cried suddenly on seeing her mother.

- Ans
- 1. bit the bullet
  - 2. lagged behind
  - 3. blazed a trail
  - 4. broke into tears

Q.4 Choose the option that can replace the highlighted text with the correct idiom.  
The students were so impressed with the speaker that they listened with complete attention throughout his lecture.

- Ans
- 1. burnt the midnight oil
  - 2. hit below the belt
  - 3. hung on every word
  - 4. threw caution to the wind

Q.5 Choose the misspelt word in the sentence.

Sheetal received an acheivement award for her innovation and creativity.

- Ans
- 1. creativity
  - 2. received
  - 3. acheivement
  - 4. innovation

Q.6 In the given question, a statement divided into different segments is given. The first segment (A) is fixed, rearrange the other segments to form a coherent statement.

- (A) In framing the new policy, legislators debated provisions that would
- (B) protect workers' rights in gig economy platforms,
- (C) clarify liability for automated decision systems,
- (D) and incentivize small businesses to formalize operations,
- (E) aiming to balance flexibility with social protections

- Ans
- 1. ACDEB
  - 2. AEBDC
  - 3. ABCDE
  - 4. AEDCB

Q.7 Choose the correct option to complete the sentence.

If you want to understand \_\_\_\_\_ importance of education, speak with \_\_\_\_\_ teachers who inspire their students.

- Ans
- 1. the, a
  - 2. the, the
  - 3. a, the
  - 4. an, the

Q.8 Select the option that can be used as a one-word substitute for the given group of words.

Equal in rank, merit or quality

- Ans
- 1. Pair
  - 2. Leader
  - 3. Friend
  - 4. Peer

Q.9 Choose the most appropriate option to fill in the given blanks.

They completed the task \_\_\_ and submitted the report \_\_\_.

- Ans
- 1. efficiently, prompt
  - 2. efficiently, promptly
  - 3. efficient, prompt
  - 4. efficient, promptly

Q.10 Select the most appropriate verb to fill in the blank.

Had she \_\_\_ the report earlier, she would have been able to submit it on time.

- Ans
- 1. finished
  - 2. finishes
  - 3. have finished
  - 4. finish

Q.11 Fill in the blank with the correct preposition.


The results were achieved \_\_\_\_ hard work and dedication.

- Ans
- 1. among
  - 2. despite
  - 3. unless
  - 4. through

Q.12 Choose the most appropriate option that best expresses the relationship similar to the original pair of words.

Affluent : Opulent :: Expeditious : \_\_\_\_\_

- Ans
- 1. Delayed
  - 2. Methodical
  - 3. Auspicious
  - 4. Prompt



Q.13 Select the most appropriate article to fill in the blank. If no article is needed, select 'No article required'.

She gave me \_\_\_\_ honest opinion about my research, even though it was critical.

- Ans
- 1. a
  - 2. No article required
  - 3. the
  - 4. an

Q.14 Select the option that is the most appropriate antonym of the highlighted word in the given sentence.

His **wrath** frightened the entire class and created a tense atmosphere.

- Ans
- 1. rage
  - 2. calmness
  - 3. fury
  - 4. annoyance

Q.15 Identify the antonym of the underlined word in the sentence given below.

The manager depreciated the employee's suggestion during the meeting.

- Ans
- 1. recorded
  - 2. neglected
  - 3. overlooked
  - 4. endorsed

**Comprehension:**

Read the given passage carefully and answer the questions that follow.

Festivals are often regarded as moments of joy, but they also reveal the deeper relationship between communities and nature. In many traditional societies, harvest festivals are not simply celebrations of abundance; they are acknowledgments of dependence on soil, rain, and sunlight. Songs and dances become rituals of gratitude, reinforcing the idea that human prosperity is inseparable from ecological cycles. Yet, in the modern age, festivals increasingly drift away from this ecological awareness. Fireworks pollute the air, plastic decorations clog rivers, and excessive consumption creates more waste than reverence. What was once a reminder of humility before nature risks becoming a spectacle of excess. Still, the essence of festivals persists: the desire to connect, to remember, and to honor forces greater than ourselves. If reoriented with awareness, festivals can once again embody the balance between celebration and responsibility, reminding us that joy without sustainability is joy without continuity.

**SubQuestion No : 16**

**Q.16** Which of the following is the most suitable title for the passage?

- Ans
- 1. Joy Without Sustainability in Human Rituals
  - 2. Festivals as Bridges Between Celebration and Responsibility
  - 3. Pollution and Waste in Modern Festivals
  - 4. The Decline of Traditional Harvest Celebrations

**Comprehension:**

Read the given passage carefully and answer the questions that follow.

Festivals are often regarded as moments of joy, but they also reveal the deeper relationship between communities and nature. In many traditional societies, harvest festivals are not simply celebrations of abundance; they are acknowledgments of dependence on soil, rain, and sunlight. Songs and dances become rituals of gratitude, reinforcing the idea that human prosperity is inseparable from ecological cycles. Yet, in the modern age, festivals increasingly drift away from this ecological awareness. Fireworks pollute the air, plastic decorations clog rivers, and excessive consumption creates more waste than reverence. What was once a reminder of humility before nature risks becoming a spectacle of excess. Still, the essence of festivals persists: the desire to connect, to remember, and to honor forces greater than ourselves. If reoriented with awareness, festivals can once again embody the balance between celebration and responsibility, reminding us that joy without sustainability is joy without continuity.

**SubQuestion No : 17**

**Q.17** Identify the central theme of the passage.

- Ans
- 1. Festivals are mainly occasions for waste and environmental pollution.
  - 2. Festivals must balance joy with ecological responsibility to retain their essence.
  - 3. Festivals are no longer relevant in the modern age of technology.
  - 4. Festivals serve as spectacles of human excess without cultural meaning.

**Comprehension:**

Read the given passage carefully and answer the questions that follow.

Festivals are often regarded as moments of joy, but they also reveal the deeper relationship between communities and nature. In many traditional societies, harvest festivals are not simply celebrations of abundance; they are acknowledgments of dependence on soil, rain, and sunlight. Songs and dances become rituals of gratitude, reinforcing the idea that human prosperity is inseparable from ecological cycles. Yet, in the modern age, festivals increasingly drift away from this ecological awareness. Fireworks pollute the air, plastic decorations clog rivers, and excessive consumption creates more waste than reverence. What was once a reminder of humility before nature risks becoming a spectacle of excess. Still, the essence of festivals persists: the desire to connect, to remember, and to honor forces greater than ourselves. If reoriented with awareness, festivals can once again embody the balance between celebration and responsibility, reminding us that joy without sustainability is joy without continuity.

**SubQuestion No : 18**

**Q.18** Which fact is directly mentioned in the passage?

- Ans
- 1. Modern societies have abandoned all traditional rituals completely.
  - 2. Festivals are universally free from environmental consequences.
  - 3. Harvest festivals acknowledge dependence on soil, rain, and sunlight.
  - 4. Rituals of gratitude in festivals are irrelevant to ecological cycles.

**Comprehension:**

Read the given passage carefully and answer the questions that follow.

Festivals are often regarded as moments of joy, but they also reveal the deeper relationship between communities and nature. In many traditional societies, harvest festivals are not simply celebrations of abundance; they are acknowledgments of dependence on soil, rain, and sunlight. Songs and dances become rituals of gratitude, reinforcing the idea that human prosperity is inseparable from ecological cycles. Yet, in the modern age, festivals increasingly drift away from this ecological awareness. Fireworks pollute the air, plastic decorations clog rivers, and excessive consumption creates more waste than reverence. What was once a reminder of humility before nature risks becoming a spectacle of excess. Still, the essence of festivals persists: the desire to connect, to remember, and to honor forces greater than ourselves. If reoriented with awareness, festivals can once again embody the balance between celebration and responsibility, reminding us that joy without sustainability is joy without continuity.

**SubQuestion No : 19**

**Q.19** Which inference can be drawn from the passage?

- Ans
- 1. Traditional festivals were always harmful to natural ecosystems.
  - 2. Excessive consumption during festivals reflects a loss of ecological sensitivity.
  - 3. Festivals can survive without cultural or ecological awareness.
  - 4. Modern festivals create no meaningful connection between humans and nature.

**Comprehension:**

Read the given passage carefully and answer the questions that follow.

Festivals are often regarded as moments of joy, but they also reveal the deeper relationship between communities and nature. In many traditional societies, harvest festivals are not simply celebrations of abundance; they are acknowledgments of dependence on soil, rain, and sunlight. Songs and dances become rituals of gratitude, reinforcing the idea that human prosperity is inseparable from ecological cycles. Yet, in the modern age, festivals increasingly drift away from this ecological awareness. Fireworks pollute the air, plastic decorations clog rivers, and excessive consumption creates more waste than reverence. What was once a reminder of humility before nature risks becoming a spectacle of excess. Still, the essence of festivals persists: the desire to connect, to remember, and to honor forces greater than ourselves. If reoriented with awareness, festivals can once again embody the balance between celebration and responsibility, reminding us that joy without sustainability is joy without continuity.

**SubQuestion No : 20**

**Q.20** The tone of the passage can best be described as:

- Ans
- 1. Casual and humorous
  - 2. Aggressive and accusatory
  - 3. Thoughtful and cautionary
  - 4. Detached and neutral

Section : Hindi Language and Comprehension

**Q.1** दिपावली दीपों का त्योहार है।  
उपर्युक्त वाक्य के किस भाग में वर्तनी संबंधी अशुद्धि है ?

- Ans
- 1. त्योहार
  - 2. दिपावली
  - 3. दीपों का
  - 4. है।

Q.2 दिए गए वाक्यों में से वर्तनी की दृष्टि से शुद्ध वाक्य का चयन कीजिए।

- Ans
- 1. वह हमारे मुख्य अतिथि थे।
  - 2. वह हमारे मुख्य अतिथ थे।
  - 3. वह हमारे मुख्य अतिथि थे।
  - 4. वह हमारे मुख्य अधिथि थे।

Q.3 रिक्त स्थान में सर्वाधिक उपयुक्त प्रेरणार्थक क्रिया के प्रयोग से वाक्य पूर्ण करें।  
मैंने उससे चिट्ठी .....।

- Ans
- 1. लिखवाई
  - 2. भेजी
  - 3. खरीदी
  - 4. लिखी

Q.4 'ख्याली पुलाव पकाना' मुहावरे का सही अर्थ क्या होगा?

- Ans
- 1. उलटा काम करना
  - 2. बहुत तारीफ़ करना
  - 3. कुछ घटकर होना
  - 4. व्यर्थ कल्पना करना

Q.5 निम्न में से 'आँख के अंधे गाँठ के पूरे' लोकोक्ति का सही अर्थ कौन है?

- Ans
- 1. मूर्ख धनवान
  - 2. पीछा न छोड़ना
  - 3. प्रतिवाद करना
  - 4. डींग हांकना

Q.6 दिए गए वाक्य में अधिकरण कारक का चयन करके रिक्त स्थान की पूर्ति करें -  
भारतीय दार्शनिक परंपरा -----अपार ज्ञान- संपदा संचित है।

- Ans
- 1. को
  - 2. में
  - 3. ने
  - 4. से

Q.7 'न पढ़ा न लिखा' किस लोकोक्ति का अर्थ है?

- Ans
- 1. काला अक्षर भैंस बराबर
  - 2. किसी का घर जले कोई तापे
  - 3. कानी के ब्याह में सौ जोखिम
  - 4. कुएँ की मिट्टी कुएँ में ही लगती है

Q.8 दिए गए वाक्यांश के लिए सार्थक शब्द बताएं -  
'सभ्य होने की अवस्था'

- Ans
- 1. सभ्यता
  - 2. आधुनिक
  - 3. यथार्थ
  - 4. समदर्शी



Q.9 वाक्य में रेखांकित शब्द का सही विलोम चुनिए।  
'उसके हृदय में बहुत कोमलता है।'

- Ans
- 1. अकुशलता
  - 2. अकृत्रिम
  - 3. कठोरता
  - 4. अक्रमिक

Q.10 दिए गए वाक्य के किस भाग में त्रुटि है?  
त्याग सुख का सोपान और जीवन की साथकता है।

- Ans
- 1. त्याग सुख
  - 2. साथकता है।
  - 3. और जीवन की
  - 4. का सोपान

Q.11 "अगर-मगर करना"- मुहावरे का क्या अर्थ है?

- Ans
- 1. इधर की बात उधर करना
  - 2. बहाने बनाना
  - 3. व्यर्थ समय गँवाना
  - 4. मज़ाक उड़ाना

Q.12 नीचे दिए गए वाक्यों में से उचित पद-क्रम वाले वाक्य का चयन कीजिए।

- Ans
- 1. ऊपर बादल मँडरा रहे हैं।
  - 2. उपर बदल मँडरा रहे हैं।
  - 3. ऊपर बदल मँडरा रहे हैं।
  - 4. ऊपर बदल मँडरा रहे है।

Q.13 निम्नलिखित वाक्य के रिक्त स्थान में उचित कारक चिह्न का प्रयोग करें -  
'मोहित बच्चों खिलौने लाया।

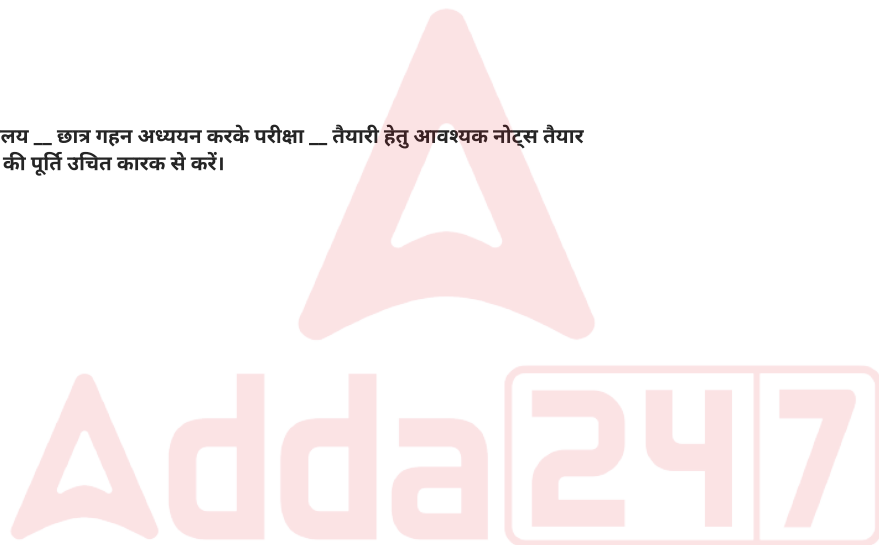
- Ans
- 1. से
  - 2. भीतर
  - 3. अरे
  - 4. के लिए

Q.14 दिए गए वाक्य के लिए कारक के उचित परसर्ग का चयन कीजिए-  
मेरा घर शहर \_\_\_\_\_ दूर है।

- Ans
- 1. से
  - 2. में
  - 3. के लिए
  - 4. को

Q.15 "विद्यालय के पुस्तकालय \_\_ छात्र गहन अध्ययन करके परीक्षा \_\_ तैयारी हेतु आवश्यक नोट्स तैयार करते हैं।" रिक्त स्थान की पूर्ति उचित कारक से करें।

- Ans
- 1. से, को
  - 2. को, ने
  - 3. में, की
  - 4. ने, को



**Comprehension:**

निम्नलिखित गद्यांश के आधार पर पूछे गए प्रश्नों के सही विकल्प का चयन करें-  
नागरिक के कर्तव्य और अधिकारों की समष्टि को नागरिकता कहा जाता है। नागरिकता ऐसी विशेषता है जिसके अभाव में मनुष्य न तो समाज का आवश्यक अंग बन पाता है और न राज्य का। इसके बिना मनुष्य का जीवन एक प्रकार से या तो पशुवत् हो जाता है या महान् विरागी संन्यासी के समान, जिसका सांसारिकता से कोई सम्बन्ध नहीं होता। अतः नागरिकता हर मनुष्य को नागरिक बनाने के लिए आवश्यक है। वहीं समाज को व्यवस्थित तथा मर्यादित रखने के लिए सदाचार की आवश्यकता होती है। झूठ न बोलना, चोरी न करना, किसी को अनावश्यक ढंग से न सताना, अनुचित रीति से कामाचार न करना आदि सदाचार माने जाते हैं। झूठ, चोरी, अत्याचार आदि का त्याग इसलिए आवश्यक होता है कि इनसे समाज में अव्यवस्था उत्पन्न होती है तथा समाज का ढाँचा लड़खड़ा जाता है। समाज उन्हीं गुणों का आदर सम्मान करता है जो सामाजिक विधियों को दृढ़ बनाने में तथा बहुजन हिताय और बहुजन सुखाय कार्यों में सहायक होते हैं।

**SubQuestion No : 16**

**Q.16** समाज निम्नलिखित में से किस गुण का सर्वाधिक सम्मान करता है?

- Ans**
- 1. अधिकारों के प्रति जागरूकता
  - 2. वैराग्य
  - 3. सदाचार
  - 4. कर्तव्य विमुखता

**Comprehension:**

निम्नलिखित गद्यांश के आधार पर पूछे गए प्रश्नों के सही विकल्प का चयन करें-  
नागरिक के कर्तव्य और अधिकारों की समष्टि को नागरिकता कहा जाता है। नागरिकता ऐसी विशेषता है जिसके अभाव में मनुष्य न तो समाज का आवश्यक अंग बन पाता है और न राज्य का। इसके बिना मनुष्य का जीवन एक प्रकार से या तो पशुवत् हो जाता है या महान् विरागी संन्यासी के समान, जिसका सांसारिकता से कोई सम्बन्ध नहीं होता। अतः नागरिकता हर मनुष्य को नागरिक बनाने के लिए आवश्यक है। वहीं समाज को व्यवस्थित तथा मर्यादित रखने के लिए सदाचार की आवश्यकता होती है। झूठ न बोलना, चोरी न करना, किसी को अनावश्यक ढंग से न सताना, अनुचित रीति से कामाचार न करना आदि सदाचार माने जाते हैं। झूठ, चोरी, अत्याचार आदि का त्याग इसलिए आवश्यक होता है कि इनसे समाज में अव्यवस्था उत्पन्न होती है तथा समाज का ढाँचा लड़खड़ा जाता है। समाज उन्हीं गुणों का आदर सम्मान करता है जो सामाजिक विधियों को दृढ़ बनाने में तथा बहुजन हिताय और बहुजन सुखाय कार्यों में सहायक होते हैं।

**SubQuestion No : 17**

**Q.17** गद्यांश का सर्वाधिक उपयुक्त निष्कर्ष क्या है?

- Ans**
- 1. झूठ, चोरी, अत्याचार दुराचार के अंग हैं
  - 2. नागरिकता केवल राज्य से जुड़ा औपचारिक संबंध है
  - 3. नागरिकता और सदाचार दोनों मिलकर व्यक्ति को समाजोपयोगी बनाते हैं
  - 4. मनुष्य का जीवन संन्यास और सांसारिकता के बीच फँसा हुआ है

**Comprehension:**

निम्नलिखित गद्यांश के आधार पर पूछे गए प्रश्नों के सही विकल्प का चयन करें-  
नागरिक के कर्तव्य और अधिकारों की समष्टि को नागरिकता कहा जाता है। नागरिकता ऐसी विशेषता है जिसके अभाव में मनुष्य न तो समाज का आवश्यक अंग बन पाता है और न राज्य का। इसके बिना मनुष्य का जीवन एक प्रकार से या तो पशुवत् हो जाता है या महान् विरागी संन्यासी के समान, जिसका सांसारिकता से कोई सम्बन्ध नहीं होता। अतः नागरिकता हर मनुष्य को नागरिक बनाने के लिए आवश्यक है। वहीं समाज को व्यवस्थित तथा मर्यादित रखने के लिए सदाचार की आवश्यकता होती है। झूठ न बोलना, चोरी न करना, किसी को अनावश्यक ढंग से न सताना, अनुचित रीति से कामाचार न करना आदि सदाचार माने जाते हैं। झूठ, चोरी, अत्याचार आदि का त्याग इसलिए आवश्यक होता है कि इनसे समाज में अव्यवस्था उत्पन्न होती है तथा समाज का ढाँचा लड़खड़ा जाता है। समाज उन्हीं गुणों का आदर सम्मान करता है जो सामाजिक विधियों को दृढ़ बनाने में तथा बहुजन हिताय और बहुजन सुखाय कार्यों में सहायक होते हैं।

**SubQuestion No : 18**

**Q.18 नागरिकता और सदाचार की भावना के अनुरूप वास्तविक जीवन में किस स्थिति को आदर्श माना जाएगा?**

- Ans**
- 1. व्यक्ति का केवल निजी लाभ को प्राथमिकता देना
  - 2. कानून से बचते हुए अनुचित कार्य करना
  - 3. समाज से असम्बद्ध रहकर जीवन व्यतीत करना
  - 4. सामाजिक व्यवस्था बनाए रखने हेतु नैतिक आचरण अपनाना

**Comprehension:**

निम्नलिखित गद्यांश के आधार पर पूछे गए प्रश्नों के सही विकल्प का चयन करें-  
नागरिक के कर्तव्य और अधिकारों की समष्टि को नागरिकता कहा जाता है। नागरिकता ऐसी विशेषता है जिसके अभाव में मनुष्य न तो समाज का आवश्यक अंग बन पाता है और न राज्य का। इसके बिना मनुष्य का जीवन एक प्रकार से या तो पशुवत् हो जाता है या महान् विरागी संन्यासी के समान, जिसका सांसारिकता से कोई सम्बन्ध नहीं होता। अतः नागरिकता हर मनुष्य को नागरिक बनाने के लिए आवश्यक है। वहीं समाज को व्यवस्थित तथा मर्यादित रखने के लिए सदाचार की आवश्यकता होती है। झूठ न बोलना, चोरी न करना, किसी को अनावश्यक ढंग से न सताना, अनुचित रीति से कामाचार न करना आदि सदाचार माने जाते हैं। झूठ, चोरी, अत्याचार आदि का त्याग इसलिए आवश्यक होता है कि इनसे समाज में अव्यवस्था उत्पन्न होती है तथा समाज का ढाँचा लड़खड़ा जाता है। समाज उन्हीं गुणों का आदर सम्मान करता है जो सामाजिक विधियों को दृढ़ बनाने में तथा बहुजन हिताय और बहुजन सुखाय कार्यों में सहायक होते हैं।

**SubQuestion No : 19**

**Q.19 'कर्तव्य और अधिकारों की समष्टि'- इस वाक्य में 'समष्टि' का क्या अर्थ है?**

- Ans**
- 1. प्रतिस्पर्धा
  - 2. वृद्धि
  - 3. सामंजस्य
  - 4. पुष्टि

**Comprehension:**

निम्नलिखित गद्यांश के आधार पर पूछे गए प्रश्नों के सही विकल्प का चयन करें-  
नागरिक के कर्तव्य और अधिकारों की समष्टि को नागरिकता कहा जाता है। नागरिकता ऐसी विशेषता है जिसके अभाव में मनुष्य न तो समाज का आवश्यक अंग बन पाता है और न राज्य का। इसके बिना मनुष्य का जीवन एक प्रकार से या तो पशुवत् हो जाता है या महान् विरागी संन्यासी के समान, जिसका सांसारिकता से कोई सम्बन्ध नहीं होता। अतः नागरिकता हर मनुष्य को नागरिक बनाने के लिए आवश्यक है। वहीं समाज को व्यवस्थित तथा मर्यादित रखने के लिए सदाचार की आवश्यकता होती है। झूठ न बोलना, चोरी न करना, किसी को अनावश्यक ढंग से न सताना, अनुचित रीति से कामाचार न करना आदि सदाचार माने जाते हैं। झूठ, चोरी, अत्याचार आदि का त्याग इसलिए आवश्यक होता है कि इनसे समाज में अव्यवस्था उत्पन्न होती है तथा समाज का ढाँचा लड़खड़ा जाता है। समाज उन्हीं गुणों का आदर सम्मान करता है जो सामाजिक विधियों को दृढ़ बनाने में तथा बहुजन हिताय और बहुजन सुखाय कार्यों में सहायक होते हैं।

**SubQuestion No : 20****Q.20 इस गद्यांश में 'सांसारिकता' से क्या अभिप्राय है?****Ans**  1. सांसारिक कर्तव्यों और अधिकारों का निर्वहन 2. सांसारिक जीवन से विरक्ति 3. संसार से मोहभंग की स्थिति 4. संसार का उपहास उड़ाना

## Section : Discipline1

**Q.1 In Indian society, a major feature reflecting its diversity is \_\_\_\_\_.****Ans**  1. Multiple religions 2. Rural mobility 3. Shared economy 4. Unified lifestyle**Q.2 माध्यमिक शिक्षा आयोग (1952-53) के अध्यक्ष कौन थे?****Ans**  1. डॉ. ज़ाकिर हुसैन 2. मौलाना अबुल कलाम आज़ाद 3. डॉ. ए. लक्ष्मणस्वामी मुदालियर 4. डॉ. एस. राधाकृष्णन

Q.3 समाजीकरण के संदर्भ में, प्राथमिक अभिकर्ता किसे माना जाता है?

- Ans
- 1. राजनीतिक संस्थाएं
  - 2. विद्यालय
  - 3. परिवार
  - 4. मीडिया

Q.4 यदि कोई बच्चा ऐसे वातावरण में बड़ा होता है जहाँ माता-पिता के बीच बारंबार मतभिन्नता होती है, तो उसके व्यक्तित्व पर क्या प्रभाव पड़ सकता है?

- Ans
- 1. बच्चा स्वतः ही आत्मविश्वासी हो जाएगा
  - 2. बच्चा सदैव आशावादी रहेगा
  - 3. बच्चे में असुरक्षा की भावना विकसित हो सकती है
  - 4. बच्चा अधिक उदार हो जाएगा

Q.5 RTE अधिनियम, 2009 के अनुसार, भारत में निःशुल्क और अनिवार्य प्रारंभिक शिक्षा की गारंटी निम्नलिखित में से किस आयु वर्ग को दी जाती है?

- Ans
- 1. 6 से 14 वर्ष
  - 2. 6 से 16 वर्ष
  - 3. 14 से 18 वर्ष
  - 4. 3 से 6 वर्ष

Q.6 Which statement most accurately distinguishes between curriculum and syllabus?

- Ans
- 1. Syllabus determines educational philosophy, curriculum does not.
  - 2. Syllabus and curriculum are interchangeable terms with identical meanings.
  - 3. Curriculum includes all educational experiences, syllabus outlines topics.
  - 4. Curriculum refers only to textbooks, while syllabus includes assessments.

Q.7 Who is responsible for implementing UEE under RTE-2009 at the local level?

- Ans
- 1. Central government
  - 2. Teachers
  - 3. Parents
  - 4. Local authorities

Q.8 How does the RTE Act 2009 address social disparities in elementary education in contemporary Indian society?

- Ans
- 1. Targets only urban schools for expansion
  - 2. Raises student-teacher ratios in private setups
  - 3. Limits entry for marginalized communities
  - 4. Ensures fair admission and bans capitation fees

Q.9 शिक्षा में राष्ट्रीय एकीकरण का मुख्य उद्देश्य क्या है?

- Ans
- 1. केवल विज्ञान और प्रौद्योगिकी पढ़ाना
  - 2. समुदायों को अलग-थलग करने के लिए प्रोत्साहित करना
  - 3. केवल आर्थिक वृद्धि पर फोकस करना
  - 4. सामाजिक सद्भाव और एकता को बढ़ावा देना

Q.10 मौलिक अधिकार के रूप में निःशुल्क और अनिवार्य शिक्षा प्रदान करने के लिए किस संवैधानिक संशोधन के माध्यम से अनुच्छेद 21-A को शामिल किया गया?

- Ans
- 1. 93वें संशोधन
  - 2. 42वें संशोधन
  - 3. 86वें संशोधन
  - 4. 74वें संशोधन

Q.11 Which factor is most closely linked with the stable aspects of a child's personality?

- Ans
- 1. Current classroom rules create stable traits.
  - 2. Inherited genetic traits help develop a stable personality.
  - 3. Changing peer groups determine stable traits.
  - 4. Temporary moods are the main source of stability.

Q.12 भाषाई रूप से विविध एक भारतीय शहर का एक नगर निगम स्कूल NEP 2020 द्वारा अनिवार्य 'त्रि-भाषा सूत्र' को लागू करने का निर्णय लेता है। विद्यार्थी अपनी क्षेत्रीय भाषा, हिंदी और अंग्रेजी सीखेंगे। यह पहल मुख्य रूप से किस अंतर्निहित सामाजिक विशेषता को संबोधित करती है?

- Ans
- 1. आर्थिक असमानता और वर्ग गतिशीलता
  - 2. बहुभाषी विविधता और संघवाद को प्रोत्साहन
  - 3. जाति-आधारित अंतर्विवाह और पवित्रता नियम
  - 4. धार्मिक बहुलवाद और व्यक्तिगत कानून

Q.13 According to the context, which of the following best explains the concept of personality as discussed in personality development?

- Ans
- 1. Personality refers to the unique and dynamic organization of characteristics within an individual.
  - 2. Personality remains constant and unchangeable throughout an entire lifetime.
  - 3. Personality only involves how a person behaves in social situations only.
  - 4. Personality is solely determined by physical appearance and outward features.

Q.14 A curriculum committee is reviewing social studies content to ensure students appreciate cultural diversity. Which sociological concept justifies this initiative as essential for a multicultural society?

- Ans
- 1. Ensuring economic efficiency
  - 2. Prioritizing rote memorization of facts
  - 3. Promoting tolerance and cultural sensitivity
  - 4. Eliminating group projects

Q.15 Which skill is an example of fine motor development in early childhood?

- Ans
- 1. Shouting
  - 2. Buttoning a shirt
  - 3. Climbing
  - 4. Running

Q.16 Which of the following is an example of a gross motor skill in children?

- Ans
- 1. Buttoning a shirt
  - 2. Jumping
  - 3. Drawing
  - 4. Listening

Q.17 At what stage do children typically begin to develop control over gross motor skills like running and jumping?

- Ans
- 1. Early childhood (ages 3-6)
  - 2. Middle childhood (ages 7-12)
  - 3. Infancy (0-2 years)
  - 4. Adolescence (ages 13-18)

Q.18 Which factor most directly shapes a child's personality during early development?

- Ans
- 1. Play materials
  - 2. Family environment
  - 3. Daily routines
  - 4. Food preference

Q.19 During adolescence, which emotional characteristic becomes more prominent?

- Ans
- 1. Seeking identity
  - 2. Developing fine motor skills
  - 3. Playing pretend games
  - 4. Learning to talk and walk

Q.20 In advanced sociological theory, the "meaning" of sociology as a science of social action, according to Max Weber, emphasizes:

- Ans
- 1. Conflict-driven power structures perpetuating economic inequalities
  - 2. Objective positivist laws predicting aggregate social phenomena
  - 3. Functionalist equilibrium maintaining societal institutions intact
  - 4. Subjective interpretation of actors' intentions and cultural values

Adda247

Q.1 निम्नलिखित में से कौन-सा, विविध कक्षाओं में सहपाठी अनुशिक्षण के एक प्रमुख लाभ का सर्वोत्तम ढंग से वर्णन करता है?

- Ans
- 1. इससे सभी शिक्षण सामग्री और कक्षा संसाधनों की आवश्यकता समाप्त हो जाती है।
  - 2. इससे मुख्य रूप से केवल अकादमिक प्रदर्शन में उच्च उपलब्धि प्राप्त करने वाले विद्यार्थियों को ही लाभ होता है।
  - 3. यह विभिन्न योग्यताओं वाले विद्यार्थियों के बीच सहकारी अधिगम को प्रोत्साहित करता है।
  - 4. निरंतर पर्यवेक्षण की मांगों के कारण इससे शिक्षकों का कार्यभार काफी बढ़ जाता है।

Q.2 A science teacher mandates an investigation where students measure local air quality factors, solely collecting data through self-designed field instruments. Which experience-based method is the teacher primarily emphasizing for learning?

- Ans
- 1. Heuristic/Discovery method
  - 2. Programmed instruction design
  - 3. Programmed demonstration system
  - 4. Program-based teaching strategy

Q.3 अंतर्विषयी पाठ योजना के संदर्भ में, कौन-सा अनुक्रम पाठ्यचर्या विश्लेषण से लेकर विद्यार्थी आकलन तक तार्किक प्रगति को सर्वोत्तम रूप से सुनिश्चित करता है?

- Ans
- 1. आकलन का चयन करना, विषय-वस्तु विकसित करना, मानकों की समीक्षा करना
  - 2. विषयवस्तु वितरण की योजना बनाना, उद्देश्य निर्धारित करना, सामग्री का चयन करना
  - 3. उद्देश्यों की पहचान करना, रणनीतियों का चयन करना, आकलन को संरक्षित करना
  - 4. संसाधनों को इकट्ठा करना, सामग्री की पहचान करना, गतिविधियों को डिजाइन करना

Q.4 Early sociologists were influenced by scientific theories of:

- Ans
- 1. Space exploration
  - 2. Quantum physics
  - 3. Organic evolution
  - 4. Cyber technology

Q.5 What term describes the interactive psychological relationship where group members develop a common perception based on feelings or emotions?

- Ans
- 1. Project work
  - 2. Group dynamics
  - 3. Social service
  - 4. Hostel life

Q.6 एक प्रीस्कूल शिक्षिका बच्चों से कहानी की किताब पढ़ते समय चित्रों का वर्णन करने के लिए कहती है। इस गतिविधि में मुख्यतः भाषा को \_\_\_\_\_ के लिए एक साधन के रूप में उपयोग किया जाता है।

- Ans
- 1. अवधारणा निर्माण
  - 2. व्यवहार नियंत्रण
  - 3. स्मृति परीक्षण
  - 4. व्याकरण संशोधन

Q.7 बहुभाषावाद बच्चे के संज्ञानात्मक विकास को कैसे प्रभावित करता है?

- Ans
- 1. यह संभ्रम उत्पन्न करता है और भाषा अधिगम में विलंब करता है।
  - 2. यह समस्या-समाधान कौशल को बढ़ा सकता है।
  - 3. यह बच्चों को नए अवधारणाओं के अधिगम से रोकता है।
  - 4. यह केवल वयस्कों के लिए लाभदायक है, बच्चों के लिए नहीं है।

Q.8 निम्नलिखित में से कौन-सा घटक किसी भाषा की ध्वनियों (Sounds) को व्यवस्थित करता है?

- Ans
- 1. आकारिकी (Morphology)
  - 2. ध्वनि विज्ञान (Phonology)
  - 3. अर्थगत (Semantics)
  - 4. वाक्यविन्यास (Syntax)

Q.9 Preschool children acquire grammatical rules mainly by:

- Ans
- 1. Using language in everyday contexts
  - 2. Studying grammar textbooks
  - 3. Repeated written drills
  - 4. Continuous adult correction

Q.10 संयुक्त राष्ट्र का कौन-सा सिद्धांत यहां सही प्रकार से व्यक्त किया गया है?

- Ans
- 1. सुरक्षा परिषद (Security Council) के निर्णयों से असहमत होने पर देश बल का उपयोग कर सकता है।
  - 2. केवल सुरक्षा परिषद के स्थायी सदस्यों को ही UN चार्टर का पालन करना अनिवार्य है।
  - 3. सदस्य देशों को आवश्यकता पड़ने पर UN को अपने घरेलू मामलों में हस्तक्षेप करने की अनुमति देनी चाहिए।
  - 4. UN चार्टर के अंतर्गत सभी सदस्य देशों की संप्रभुता समान है।

Q.11 महान विभूतियों के जीवन का गुणगान करने से शिक्षार्थियों को \_\_\_\_\_ करने में सहायता मिलती है।

- Ans
- 1. स्व-अस्मिता पर विचार
  - 2. प्रत्यक्ष शीलगुणों का अनुकरण
  - 3. ऐतिहासिक तथ्यों को कंठस्थ
  - 4. ऐतिहासिक संदर्भ की अपेक्षा

Q.12 Despite its benefits, mindfulness is described as:

- Ans
- 1. Free from criticism and universally accepted
  - 2. Having detractors who question its relevance
  - 3. Without any research evidence
  - 4. A mandatory national policy across the India

Q.13 निम्नलिखित में से कौन-सा पहलू, कक्षा के परिवेश में प्रयुक्त शिक्षाशास्त्र की गतिक प्रकृति (dynamic nature) को सर्वोत्तम रूप से दर्शाता है?

- Ans
- 1. यह संदर्भ की उपेक्षा करके विषयों के एक निश्चित अनुक्रम का अनुसरण करता है।
  - 2. यह समझ के स्थान पर कंठस्थीकरण पर बल देता है।
  - 3. यह अंतर्वस्तु वितरण के लिए मुख्य रूप से मानकीकृत पाठ्यपुस्तकों पर निर्भर करता है
  - 4. यह विविध अधिगम आवश्यकताओं को पूरा करने के लिए अनुदेशनात्मक रणनीतियों को अनुकूलित करता है।

Q.14 स्वामी विवेकानंद के अनुसार, 'मानव निर्माणकारी शिक्षा (Man Making Education)' का मुख्य उद्देश्य क्या प्राप्त करना है?

- Ans
- 1. किसी व्यक्ति का समग्र विकास
  - 2. किसी एक विषय में विशेषज्ञता
  - 3. केवल व्यावसायिक करियर के लिए तैयारी
  - 4. खेलों और शारीरिक गतिविधियों में पारंगतता

Q.15 When a child uses measurement and patterns to discover a relationship and then formulates a rule, what type of reasoning is being employed?

- Ans
- 1. Inductive reasoning
  - 2. Abductive reasoning
  - 3. Deductive reasoning
  - 4. Analogical reasoning

Q.16 किसी समूह-कार्य में जहां विद्यार्थी एक दूसरे के वाक्यों में संशोधन करते हैं, यह पारस्परिक क्रिया क्या दर्शाती है?

- Ans
- 1. विद्यार्थी भाषा के नियमों की उपेक्षा करते हैं
  - 2. भाषा में केवल उच्चारण ही मायने रखता है
  - 3. भाषा का एकमात्र महत्वपूर्ण पहलू वर्तनी है
  - 4. व्याकरणिक नियमों को समझना और उनका प्रयोग करना

Q.17 किसी भाषा के नियम, वक्ता को मुख्यतः क्या करने की अनुमति देते हैं?

- Ans
- 1. संप्रेषण में सभी गलतियों और त्रुटियों से बचने
  - 2. नए वाक्य बनाए बिना पहले सुने हुए वाक्यों को दोहराने
  - 3. नए और व्याकरण की दृष्टि से सही वाक्य बनाने
  - 4. वाक्यों की संरचना को समझे बिना उनका स्मरण करने

Q.18 प्रमुख सांस्कृतिक आइकन्स (icons) को अन्य महत्वपूर्ण सांस्कृतिक प्रतीकों से किस प्रकार पृथक किया जा सकता है?

- Ans
- 1. केवल उनकी लोकप्रियता पर ध्यान केंद्रित करके
  - 2. उनके आर्थिक प्रभाव के आधार पर
  - 3. फोटोग्राफिक आइकनोग्राफी और गैर-इमेज आधारित सांस्कृतिक मिथकों से उनकी तुलना करके
  - 4. सरकारी नीति में उनके स्थान के आधार पर

Q.19 डिप्लोमा विद्यार्थियों के एक समूह को अपने प्रशिक्षण कार्यक्रम में अंतर्व्यक्तिक संघर्षों को सुलझाने के लिए जर्नल लेखन का उपयोग करने के लिए प्रोत्साहित किया जाता है। कौन-सी जर्नल गतिविधि आत्म-अवगाहन और संघर्ष समाधान कौशल को सर्वोत्तम रूप से एकीकृत करती है?

- Ans
- 1. जर्नल प्रविष्टियों में संघर्षों के लिए व्यक्तिगत अनुक्रियाओं पर विचार करना
  - 2. शैक्षणिक लक्ष्यों और उपलब्धियों के संबंध में लिखना
  - 3. संघर्षों के दौरान केवल दूसरों के व्यवहारों को सूचीबद्ध करना
  - 4. व्यक्तिगत भूमिका का विश्लेषण किए बिना संघर्षों का वर्णन करना

Q.20 शिक्षण के सिद्धांत मुख्य रूप से शिक्षकों की किसमें सहायता करते हैं?

- Ans
- 1. शिक्षण की योजना बनाने और उसे संचालित करने में
  - 2. परीक्षाओं की तैयारी करने में
  - 3. कक्षा अनुशासन को नियंत्रित करने में
  - 4. पाठ्यक्रम को पूरा करने में

Section : Discipline3

Q.1 विज्ञापनदाता द्वारा टेलीविजन विज्ञापनों के माध्यम से बच्चों को लक्षित करने का एक कारण क्या है?

- Ans
- 1. बच्चों के पास कई वयस्कों की तुलना में अधिक प्रयोज्य आय होती है।
  - 2. बच्चे घर में परिवार के खरीद संबंधी निर्णयों को दृढ़ता से प्रभावित करते हैं।
  - 3. वयस्कों की तुलना में बच्चे अधिक समय तक टेलीविजन देखते हैं।
  - 4. बच्चे विज्ञापन के संदेशों को वयस्कों की तुलना में बेहतर समझते हैं।

Q.2 Which statement correctly explains the concept of volume of a solid?

- Ans
- 1. Volume is the length measured along one direction only
  - 2. Volume is the total surface area covering the outer boundary
  - 3. Volume is the amount of three-dimensional space occupied
  - 4. Volume is the mass of a body per unit density

Q.3 In the inductive method of teaching mathematics, the teacher primarily:

- Ans
- 1. Leads students from specific examples to general principles and rules.
  - 2. Relies solely on standardized tests to validate mathematical concepts.
  - 3. Begins with abstract theories and applies them to concrete cases.
  - 4. Focuses on memorizing axioms without practical demonstrations.

Q.4 A capable Grade 8 student's performance drops significantly due to ongoing parental divorce proceedings, leading to emotional distress and low focus. According to Lewin's Equation, which intervention addresses the most immediate and influential factor affecting learning?

- Ans
- 1. Academic skills assessment
  - 2. Enhance self-efficacy beliefs
  - 3. Offer targeted motivation training
  - 4. Counsel parents on relationship

Q.5 Curriculum leadership primarily focuses on managing which two core elements within the educational process?

- Ans
- 1. Budgeting and finance
  - 2. Scheduling and logistics
  - 3. Instruction and content
  - 4. Administration and facilities

Q.6 श्रृंखला विज्ञापन, स्वाश्रयी विज्ञापनों (stand-alone ads) से भिन्न होते हैं क्योंकि \_\_\_\_\_।

- Ans
- 1. इनमें समर्थन (endorsements) के लिए केवल मशहूर हस्तियों का ही उपयोग किया जाता है
  - 2. ये कभी पुनरावृत्त या संबद्ध नहीं होते हैं
  - 3. इनमें सतत या प्रगतिशील कथात्मक को प्रस्तुत किया जाता है
  - 4. ये विभिन्न ब्रांडों के कई उत्पादों का प्रचार करते हैं

Q.7 Which sentence is correct when the jury members have differing opinions?

- Ans
- 1. The jury were divided in their opinion.
  - 2. The jury has made a single decision.
  - 3. The jury was unanimous in their decision.
  - 4. The jury is one.

Q.8 In Indian society, how do traditional gender expectations typically affect educational opportunities for girls compared to boys?

- Ans
- 1. They discourage boys from pursuing education.
  - 2. They provide equal opportunities for boys and girls.
  - 3. They increase opportunities for girls only.
  - 4. They can restrict girls' access to higher education.

Q.9 What is one key way an administrative leader supports effective teaching and learning in a school?

- Ans
- 1. Disciplining students for misconduct
  - 2. Evaluating student performance
  - 3. Choosing textbooks for classrooms
  - 4. Providing teacher support

Q.10 A teacher notices that a student who feels frustrated about their poor performance often accuses classmates of not working hard enough. Which defense mechanism is the student demonstrating?

- Ans
- 1. Rationalization
  - 2. Denial
  - 3. Projection
  - 4. Sublimation

Q.11 Which scenario best illustrates the effective use of active and passive vocabulary in a classroom?

- Ans
- 1. Students repeat words after the teacher silently
  - 2. Students memorize word lists without context
  - 3. Students only listen to new vocabulary in lectures
  - 4. Students use new words in conversation and writing

Q.12 After conditioning has taken place, the salivation exhibited by a dog in response to a stimulus such as a bell, in the absence of food, is referred to as:

- Ans
- 1. Conditioned response
  - 2. Unconditioned response
  - 3. Involuntary reflex
  - 4. Neutral response

Q.13 If a student wants to move a word from passive to active vocabulary, what is the most effective strategy?

- Ans
- 1. Practice using the word in speech and writing
  - 2. Read the word silently many times
  - 3. Memorize the word's definition told by teachers
  - 4. Hear the word in conversations between people

Q.14 According to Piaget's theory, which activity best supports the development of conservation of volume in elementary students?

- Ans
- 1. Reciting the definition of unit measurement
  - 2. Pouring water from one container to another of different shape
  - 3. Counting the number of pencils in a pencil box
  - 4. Drawing a straight line between two points on paper

Q.15 निम्नलिखित में से कौन-सा, समसामयिक शिक्षा में शिक्षक के नैतिक उत्तरदायित्व को सर्वोत्तम रूप से दर्शाता है?

- Ans
- 1. विद्यार्थियों की व्यक्तिगत आवश्यकताओं पर विचार किए बिना केवल अकादमिक परिणामों पर ध्यान केंद्रित करना
  - 2. शिक्षण में व्यक्तिगत सुविधा का अनुसरण करना और व्यवसायिक दिशानिर्देशों की अनदेखी करना
  - 3. कक्षा की सहभागिता और विद्यार्थियों के कल्याण की तुलना में प्रशासनिक कर्तव्यों को प्राथमिकता देना
  - 4. सभी शिक्षार्थियों के साथ निष्पक्ष व्यवहार करना, विविधता का सम्मान करना और पूर्णतावादी विकास को बढ़ावा देना

Q.16 A primary teacher notices that her students can recognize words like 'astonished' and 'remarkable' in reading passages but rarely use them in their spoken or written work. Which aspect of vocabulary proficiency does this scenario best illustrate?

- Ans
- 1. Expressive vocabulary
  - 2. Passive vocabulary
  - 3. Productive vocabulary
  - 4. Active vocabulary

Q.17 अधिगम सुविधाप्रदाता की भूमिका में परिवर्तन करते समय, शिक्षक मुख्य रूप से शिक्षार्थियों को किस प्रकार की अर्थ-निर्माण (meaning-making) प्रक्रिया में संलग्न होने के लिए प्रोत्साहित करता है?

- Ans
- 1. निष्क्रिय श्रवण (Passive listening)
  - 2. अभिग्रहण अधिगम (Reception learning)
  - 3. खोजपूर्ण अधिगम (Discovery learning)
  - 4. स्मरणीकरण कार्य (Memorization tasks)

Q.18 निम्नलिखित में से कौन-सा कारक, भारतीय समाज में जेंडर भूमिकाओं को प्रभावित नहीं करता है?

- Ans
- 1. समकक्षीय समूह
  - 2. परिवार
  - 3. पारिस्थितिकी
  - 4. विद्यालय

Q.19 कौन-सा सामाजिक कारक भारतीय समाज में बच्चों के बीच जेंडर भूमिकाओं के विकास को सबसे महत्वपूर्ण रूप से प्रभावित करता है?

- Ans
- 1. विद्यालय का भौतिक परिवेश
  - 2. डिजिटल प्रौद्योगिकी तक पहुँच
  - 3. केवल आर्थिक स्थिति (status)
  - 4. माता-पिता की अपेक्षाएँ और मॉडलिंग (modeling)

Q.20 According to Vygotsky, the most developmentally significant form of play is:

- Ans
- 1. Imaginative play
  - 2. Rule-based play
  - 3. Solitary play
  - 4. Functional play



Q.1 प्राथमिक शिक्षा में पर्यावरण अध्ययन का मुख्य महत्व क्या है?


- Ans
- 1. यह व्यावहारिक अनुप्रयोग के बिना केवल वैज्ञानिक शब्दों को स्मरण करने पर केंद्रित है
  - 2. यह शिक्षार्थियों को पर्यावरणीय मुद्दों की अनदेखी करने और परीक्षा पर फोकस करने के लिए प्रोत्साहित करता है
  - 3. यह केवल पर्यावरणीय तथ्यों पर केंद्रित होकर अन्य विषयों का स्थान ले लेता है
  - 4. यह शिक्षार्थियों को प्राकृतिक और सामाजिक पर्यावरण के प्रति जागरूकता और समझ विकसित करने में सहायता करता है

Q.2 Which of the following is a commonly identified micro teaching skill?

- Ans
- 1. Skill of timetable preparation
  - 2. Skill of explaining
  - 3. Skill of institutional administration
  - 4. Skill of syllabus framing

Q.3 What does globalization primarily refer to in the context of education?

- Ans
- 1. Technological automation
  - 2. Curricular standardization
  - 3. Cross-border interconnectedness
  - 4. Institutional privatization



Q.4 नव नियुक्त प्रधानाचार्य ने देखा कि कई शिक्षक रटाकर याद कराने पर बहुत अधिक निर्भर रहते हैं और समूह गतिविधियों का उपयोग बहुत कम करते हैं। कक्षा शिक्षण पद्धतियों में बदलाव लाने के उद्देश्य से एक शिक्षाविद के रूप में, प्रधानाचार्य को सक्रिय अधिगम को बढ़ावा देने के लिए प्रारंभिक तौर पर कौन-सा उपागम अपनाना चाहिए?

- Ans
- 1. विद्यार्थियों के डिसिप्लिन संबंधी मुद्दों पर केवल साप्ताहिक रिपोर्ट लेना।
  - 2. उत्तरदायित्वों को प्रोत्साहित करने के लिए शिक्षकों को अतिरिक्त प्रशासनिक कर्तव्य सौंपना।
  - 3. पाठ्यपुस्तक को पूर्ण करने पर जोर देने वाले सख्त पाठ प्रारूपों को लागू करना।
  - 4. पूछताछ-आधारित पाठ योजना का मॉडल प्रस्तुत करने के लिए सहयोगात्मक योजना सत्रों को सुगम बनाना

Q.5 निम्नलिखित में से कौन-सा, प्रभावी पाठ योजना का एक महत्वपूर्ण सिद्धांत है?

- Ans
- 1. यह केवल शिक्षक की सुविधा और प्राथमिकताओं पर निर्भर होनी चाहिए।
  - 2. इसमें पाठों को अधिक रोचक बनाने के लिए असंबंधित विषयों को भी शामिल किया जाना चाहिए
  - 3. यह कक्षा-कक्ष परिवर्तनों के लिए बिना किसी नम्यता के साथ पूर्णतः अनम्य होनी चाहिए
  - 4. इसे स्पष्ट रूप से परिभाषित उद्देश्यों और विद्यार्थी-केंद्रित अधिगम पर ध्यान केंद्रित करना चाहिए

Q.6 EVS शिक्षण में वैज्ञानिक उपागम निम्नलिखित में से किस कक्षा अनुप्रयोग पर बल देता है?

- Ans
- 1. विद्यार्थियों के पूर्व ज्ञान की उपेक्षा करना
  - 2. अवलोकन और प्रश्न पूछने के लिए प्रोत्साहित करना
  - 3. केवल पुनरावर्ती कंठस्थीकरण को प्रोत्साहित करना
  - 4. क्रियाकलाप को केवल पाठ्यपुस्तक पठन तक सीमित करना

Q.7 In planning a reading lesson, a teacher decides to begin by asking students to share personal stories related to the text's theme and introduces challenging vocabulary. This preparatory sequence is categorized under which lesson planning phase?

- Ans
- 1. Content sequencing alignment.
  - 2. Beyond comprehension extension.
  - 3. Through material exploration.
  - 4. Into preparation phase.

Q.8 एक पाठ के दौरान, विद्यार्थी अपने परिवारों द्वारा खाद्य-पदार्थों की खराबी और संरक्षण के प्रबंधन के तरीकों पर एक समूह सर्वेक्षण करते हैं। यह क्रियाकलाप किन दो प्रमुख थीम को आपस में जोड़ता है?

- Ans
- 1. जल और आश्रय (Water and Shelter)
  - 2. यात्रा तथा परिवार एवं मित्र (Travel and Family and Friends)
  - 3. भोजन और वे चीजें जो हम बनाते और करते हैं (Food and Things We Make and Do)
  - 4. भोजन और आश्रय (Food and Shelter)

Q.9 How can teachers improve the reliability and validity of open-ended question assessments?

- Ans
- 1. Allowing students to use multiple response formats
  - 2. Focusing solely on grammatical accuracy
  - 3. Constructing clear scoring rubrics and coding categories
  - 4. Simplifying the questions to reduce students' effort

Q.10 स्पष्ट प्रस्तुतिकरण के अभाव में दृष्टिबाधित विद्यार्थी को सामाजिक अध्ययन के कुछ विषयों को समझने में कठिनाई होती है। ऐसी आवश्यकताओं की पूर्ति हेतु पाठ्यपुस्तक लेखकों को किस विश्लेषण मानदंड को प्राथमिकता देनी चाहिए?

- Ans
- 1. दृष्टान्तों के बिना दीर्घ पाठ्य व्याख्याओं पर ध्यान केंद्रित करना
  - 2. दृश्य साधनों की तुलना में जटिल भाषा को प्राथमिकता देना
  - 3. दृश्यों को केवल मानचित्रों और आरेखों तक सीमित रखना
  - 4. अभिगम्यता के लिए स्पष्ट, विविध और प्रासंगिक दृश्यों का समावेशन करना

Q.11 पर्यावरण अध्ययन में निम्न लागत वाले शिक्षण साधन के रूप में सामान्यतः किस सामग्री का उपयोग किया जाता है?

- Ans
- 1. मानकीकृत मल्टीमीडिया लर्निंग पैकेज
  - 2. डिजिटल रूप से अनुकरण किए गए पर्यावरणीय मॉडल
  - 3. स्थानीय रूप से उपलब्ध प्राकृतिक और अपशिष्ट सामग्री
  - 4. व्यावसायिक रूप से उत्पादित प्रयोगशाला उपकरण

Q.12 What is a primary responsibility of operational directive functions at the District Level?

- Ans
- 1. Policy making
  - 2. Grant-in-aid disbursement
  - 3. Budget formulation
  - 4. Inspectorial and supervisory functions

Q.13 Which type of leadership focuses on providing equal opportunities to all students, teachers, and parents, regardless of their abilities?

- Ans
- 1. Responsible leadership
  - 2. Responsive leadership
  - 3. Network leadership
  - 4. Inclusive leadership

Q.14 प्राथमिक स्तर पर अंग्रेजी शिक्षाशास्त्र में सुधार के लिए ICT की एक प्रमुख सीमा क्या है?

- Ans
- 1. ICT पाठ योजना में शिक्षक की भागीदारी की आवश्यकता को समाप्त कर देती है।
  - 2. ICT पुरानी शिक्षण विधियों के साथ भी बेहतर परिणाम सुनिश्चित करती है।
  - 3. ICT पाठ्यक्रम और अधिगम उद्देश्यों से स्वतंत्र रूप से कार्य करती है।
  - 4. उचित शिक्षण रणनीतियों के बिना केवल ICT से शिक्षाशास्त्र में सुधार नहीं होता है।

Q.15 अंग्रेजी भाषा शिक्षण के सिद्धांतों के अनुसार, प्रभावी अधिगम को बढ़ावा देने के लिए एक शिक्षक को निम्नलिखित में से किसे प्राथमिकता देनी चाहिए?

- Ans
- 1. केवल शब्दावली सूचियों के स्मरण पर बल देना
  - 2. अन्तर्क्रियात्मक और विद्यार्थी-केंद्रित गतिविधियों को तैयार करना
  - 3. विशेष रूप से अनुवाद पद्धति पर ध्यान केंद्रित करना
  - 4. केवल शिक्षक-केंद्रित व्याख्यानो का उपयोग करना

Q.16 सामाजिक लक्ष्यों और अनिवार्यताओं के संदर्भ में सामाजिक विज्ञान शिक्षा का प्राथमिक लक्ष्य क्या है?

- Ans
- 1. केवल तथ्यात्मक अंतर्वस्तु को स्मरण करने पर केंद्रित होना
  - 2. सक्रिय और उत्तरदायी नागरिकता कौशल को बढ़ावा देना
  - 3. सामाजिक मुद्दों के संबंध में आलोचनात्मक चिंतन विकसित करना
  - 4. अर्थपूर्ण सामाजिक सहभागिता को हतोत्साहित करना

Q.17 Which type of language assessment focuses on evaluating student's progress during the learning process?

- Ans
- 1. Summative assessment
  - 2. Achievement assessment
  - 3. Placement assessment
  - 4. Formative assessment

Q.18 एक शिक्षक विद्यार्थियों को अंग्रेजी में सरल बातचीत और भूमिका-निर्वहन में भाग लेने के लिए प्रोत्साहित करता है। यह अभ्यास अंग्रेजी शिक्षण के किस मुख्य उद्देश्य में सहायता करता है?

- Ans
- 1. संप्रेषणपरक कौशल का विकास
  - 2. शब्दावली सूचियों को स्मरण करना
  - 3. व्याकरण की परिभाषाएं सीखना
  - 4. हस्तलेख में सुधार करना

Q.19 पाठ के चरणों में विधि चयन सिद्धांत किन एकीकृत कारकों को ध्यान में रखते हुए शिक्षण को अनुकूलित करता है?

- Ans
- 1. विद्यार्थियों की आवश्यकताओं पर अधिभावी शिक्षक की प्राथमिकताएं
  - 2. प्रासंगिक स्तरों की उपेक्षा करते हुए एकसमान तकनीकें अपनाना
  - 3. अधिगमकर्ता की क्षमताओं के साथ विषयवस्तु की विशेषताएं
  - 4. सहायता संयोजनों को छोड़कर पाठ्यपुस्तक निर्भरता

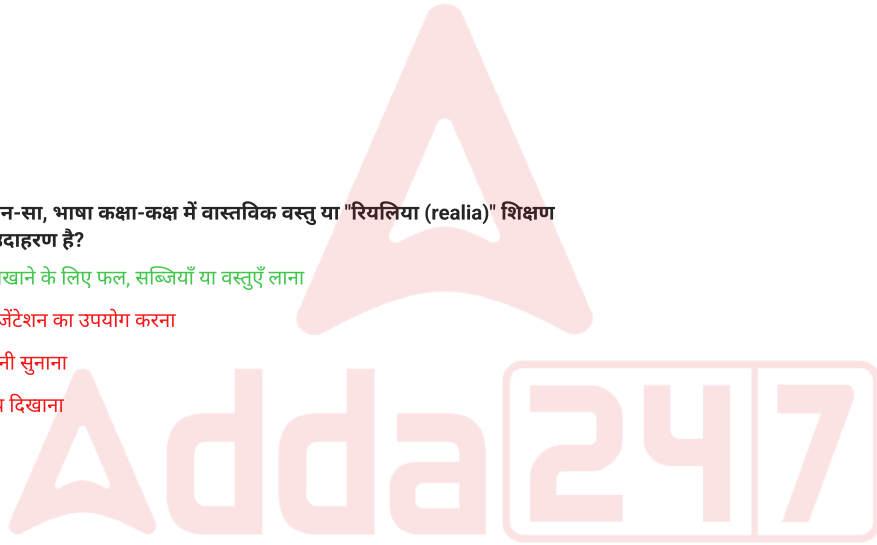
Q.20 सामाजिक अध्ययन की पाठ्यपुस्तकों की प्राथमिक भूमिका क्या है?

- Ans
- 1. केवल ऐतिहासिक तिथियों और घटनाओं को सिखाना
  - 2. सूचित और जिम्मेदार नागरिकों का निर्माण करना
  - 3. केवल स्थानीय ज्ञान आधार को बढ़ावा देना
  - 4. केवल कंठस्थीकरण कौशल पर फोकस करना

Section : Discipline5

Q.1 निम्नलिखित में से कौन-सा, भाषा कक्षा-कक्ष में वास्तविक वस्तु या "रियलिया (realia)" शिक्षण सहायक सामग्री का उदाहरण है?

- Ans
- 1. शब्दावली सिखाने के लिए फल, सब्जियाँ या वस्तुएँ लाना
  - 2. पावरपॉइंट प्रेजेंटेशन का उपयोग करना
  - 3. ऑडियो कहानी सुनाना
  - 4. वीडियो क्लिप दिखाना



Q.2 एक भाषा शिक्षिका ग्रेड 3 के विद्यार्थियों के लिए मूलभूत साक्षरता को बढ़ावा देने हेतु एक पाठ योजना तैयार कर रही हैं। वह इस योजना में विद्यार्थियों के लिए पारिवारिक कहानियों का सारांश, कहानियों में सांस्कृतिक विविधता की सराहना और समन्वित हाव-भाव के साथ कविता गाना (chant poems) जैसे क्रियाकलाप शामिल करती हैं। ब्लूम के डोमेन का कौन-सा संयोजन इस उपागम को प्रत्यक्ष रूप से निरूपित करता है?

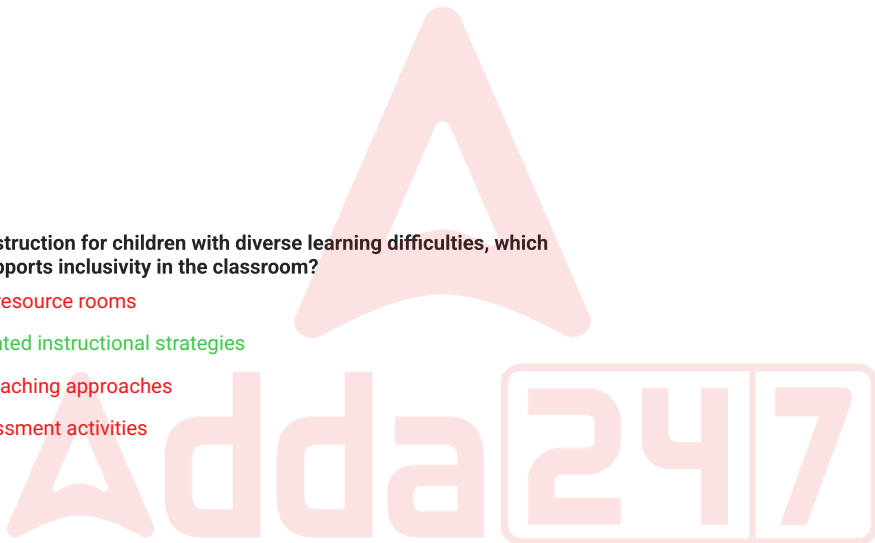
- Ans
- 1. केवल संज्ञानात्मक और मनोगामक
  - 2. केवल भावात्मक और मनोगामक
  - 3. केवल संज्ञानात्मक और भावात्मक
  - 4. संज्ञानात्मक, भावात्मक और मनोगामक

Q.3 कक्षा की गतिविधियों के दौरान, एक शिक्षक यह सुनिश्चित करता है कि दिव्यांग छात्र सुलभता से बैठें और उन्हें पूर्ण रूप से भाग लेने के लिए अनुकूलित सामग्री उपलब्ध कराई जाए। यह अभ्यास निम्नलिखित में से किस विकल्प को निरूपित करता है?

- Ans
- 1. सभी शिक्षार्थियों के लिए समान सहभागिता
  - 2. सपोर्ट के बिना प्रतीकात्मक समावेशन
  - 3. विद्यार्थियों की विशेष आवश्यकताओं को अनदेखा करना
  - 4. योग्यता के आधार पर विद्यार्थियों का पृथक्करण

Q.4 When planning instruction for children with diverse learning difficulties, which approach best supports inclusivity in the classroom?

- Ans
- 1. Exclusive resource rooms
  - 2. Differentiated instructional strategies
  - 3. Uniform teaching approaches
  - 4. Peer assessment activities



Q.5 Which of the following statements about numbers is mathematically correct?


- Ans
- 1. The sum of two odd numbers is an odd number
  - 2. Every prime number is an even number
  - 3. The product of two even numbers is an even number
  - 4. Zero is neither an even nor an odd number

Q.6 What negative outcome primarily results from patriarchal masculinity's emphasis on control, strength, and non-emotional rationality for men and boys?

- Ans
- 1. Exclusion from political roles
  - 2. Enhanced physical health risks
  - 3. Unwarranted emotional pressure
  - 4. Reduced access to property

Q.7 कौन-सी अवधारणा यह स्पष्ट करती है कि समाज, पुरुषत्व और स्त्रीत्व को किस प्रकार से परिभाषित करता है?

- Ans
- 1. सामाजिक निर्माण
  - 2. शारीरिक विकास
  - 3. प्राकृतिक वरण
  - 4. वंशागति



Q.8 एक सामुदायिक शिविर के दौरान, एक बहुअनुशासनिक दल मानकीकृत साधन का उपयोग करके कई बच्चों का मूल्यांकन करता है। एक बच्चे में विशिष्ट अधिगम अक्षमता (SLD) होने का संदेह है। इस अभिनिर्धारण की अभिपुष्टि के लिए कौन-सा साधन सबसे उपयुक्त है?


- Ans
- 1. जोखिम ग्रस्त बच्चों के लिए PRASHAST भाग 2
  - 2. बौद्धिक अक्षमता के लिए DEGSN चेकलिस्ट
  - 3. श्रवण असमर्थता के लिए BERA परीक्षण
  - 4. SLD आकलन के लिए NIMHANS बैटरी

Q.9 निम्न में से कौन-सा शब्द वस्तुओं की गिनती के लिए उपयोग की जाने वाली संख्याओं को संदर्भित करता है?

- Ans
- 1. पूर्ण संख्याएं
  - 2. परिमेय संख्याएं
  - 3. प्राकृत संख्याएं
  - 4. अभाज्य संख्याएं

Q.10 एक शिक्षक विद्यार्थियों को प्राकृतिक घटनाओं के संबंध में प्रश्न पूछने के लिए प्रोत्साहित करता है। यह विज्ञान को \_\_\_\_\_ के रूप में दर्शाता है।

- Ans
- 1. निश्चित तथ्यों के समूह
  - 2. पूछताछ और अन्वेषण की प्रक्रिया
  - 3. कला गतिविधि
  - 4. स्मरण करने वाले विषय



Q.11 एक वैज्ञानिक प्रयोगशाला में कई रासायनिक अभिक्रियाओं से ऊष्मा उत्पन्न होते हुए देखता है और यह निष्कर्ष निकालता है कि सभी रासायनिक अभिक्रियाएँ ऊष्मा उत्सर्जित करती हैं। यह किस तर्क प्रक्रिया को दर्शाता है, और यह निष्कर्ष सीमित क्यों हो सकता है?

- Ans
- 1. अपहरणात्मक तर्क; क्योंकि यह किसी प्रेक्षण के सर्वोत्तम स्पष्टीकरण की खोज करता है।
  - 2. आगमनात्मक तर्क; क्योंकि यह सीमित मामलों से सामान्यीकरण करता है।
  - 3. निगमनात्मक तर्क; क्योंकि यह एक सार्वभौमिक नियम से शुरू होता है।
  - 4. परिकल्पना-निगमनात्मक तर्क; क्योंकि यह परिकल्पना का डेटा के विरुद्ध परीक्षण करता है।

Q.12 Which statement best reflects a fundamental nature of mathematics?

- Ans
- 1. Dependent on cultural opinions
  - 2. A descriptive narrative discipline
  - 3. A purely subjective activity
  - 4. A precise and exact science

Q.13 संबंधों और पहचान में लैंगिक अभिव्यक्ति का एक उदाहरण क्या है?

- Ans
- 1. यह मान लेना कि पुरुष सदैव महिलाओं से शारीरिक रूप से अधिक शक्तिशाली होते हैं
  - 2. पुरुषों और महिलाओं द्वारा स्वयं को निर्दिष्ट भूमिकाओं के आधार पर समझना
  - 3. महिलाओं से कभी घर से बाहर काम न करने की अपेक्षा करना
  - 4. पुरुषों और महिलाओं द्वारा एक ही प्रकार की जॉब को समान रूप से करना

Q.14 ग्रामीण भारत में विज्ञान शिक्षा से संबंधित प्रमुख समस्याओं में से किसका समाधान विज्ञान किट का उपयोग करके किया जा सकता है?


- Ans
- 1. विज्ञान की अत्यधिक जटिल पाठ्यपुस्तकें
  - 2. प्रयोगशाला सुविधाओं का अभाव
  - 3. अर्हित शिक्षकों की कमी
  - 4. व्याख्यान पद्धतियों पर अत्यधिक ध्यान

Q.15 2011 की जनगणना के अनुसार, भारत की जनसंख्या का कितना प्रतिशत अनुसूचित जातियों से बना है?

- Ans
- 1. 8.63%
  - 2. 16.63%
  - 3. 44%
  - 4. 14.23%

Q.16 Which teaching strategy is considered most appropriate for subjects like science, mathematics, grammar, and physical geography based on the complementary nature of reasoning approaches?

- Ans
- 1. Inductive cum Deductive method
  - 2. Inductive only method
  - 3. Deductive only method
  - 4. Traditional lecture method



Q.17 Masculinity and femininity are considered social constructs because they:

- Ans
- 1. Are biologically universal and fixed
  - 2. Remain identical across societies
  - 3. Are independent of social interaction
  - 4. Vary across time and cultures

Q.18 ब्लूम के वर्गीकरण में अनुप्रयोग स्तर (Application level) का मुख्य उद्देश्य क्या है?

- Ans
- 1. प्रतिरूपों और छिपे हुए अर्थों को पहचानना
  - 2. नए प्रश्नों को हल करने के लिए जानकारी और विधियों का उपयोग करना
  - 3. सिद्धांतों का मूल्यांकन करना और उनके मूल्य का आकलन करना
  - 4. अवधारणाओं को समझना और ज्ञान का अनुवाद करना

Q.19 निम्नलिखित में से कौन-सा विकल्प, बच्चों को गणितीय अवधारणाओं को सिखाने में खेलों की भूमिका का सटीक वर्णन करता है?

- Ans
- 1. खेल बच्चों को आनंददायक और गैर-खतरनाक तरीके से सीखने में मदद करते हैं।
  - 2. खेल केवल बड़े बच्चों के लिए उपयोगी होते हैं न कि प्राथमिक चरण के शिक्षार्थियों के लिए।
  - 3. खेल से बच्चे केवल संख्या नामों को याद रखने के माध्यम से गणित सीखते हैं।
  - 4. खेल केवल बच्चों का मनोरंजन करते हैं और गणित अधिगम में उनकी कोई भूमिका नहीं होती है।

Q.20 निम्नलिखित में से कौन-सा, शिक्षण साधन (teaching aids) को सटीक रूप से परिभाषित करता है?

- Ans
- 1. कई इंद्रियों का उपयोग करने वाले उपकरण
  - 2. स्व-अध्ययन के लिए संसाधन
  - 3. मनोरंजन के लिए उपकरण
  - 4. मूल्यांकन के लिए सामग्री