



GOVT. OF NCT OF DELHI  
Delhi Subordinate Services Selection Board  
FC-18, Institutional Area, Karkardooma, Delhi - 110092.  
[www.dsssb.delhigovt.nic.in](http://www.dsssb.delhigovt.nic.in)

Participant ID	[REDACTED]
Participant Name	[REDACTED]
Test Center Name	iON Digital Zone iDZ 1 Sector 62
Test Date	31/03/2026
Test Time	5:00 PM - 7:00 PM
Subject	Assistant Teacher Primary

Section : General Intelligence and Reasoning Ability

Q.1 नीचे संख्याओं के दो समुच्चय दिए गए हैं। संख्याओं के प्रत्येक समुच्चय में, पहली संख्या पर निश्चित गणितीय संक्रियाएं करके दूसरी संख्या प्राप्त की जाती है। इसी प्रकार, दूसरी संख्या पर निश्चित गणितीय संक्रियाएं करके तीसरी संख्या प्राप्त की जाती है, और इसी प्रकार आगे की भी संक्रियाएं प्राप्त की जाती हैं। दिए गए विकल्पों में से कौन-सा विकल्प, उन्हीं संक्रियाओं का अनुसरण करता है, जो प्रश्न में दिए गए समुच्चयों में अनुसरण की गई है?

(नोट: संख्याओं को उनके घटक अंकों में तोड़े बिना, पूर्ण संख्याओं पर संक्रियाएं की जानी चाहिए। उदाहरण के लिए 13 लीजिए, 13 पर संक्रियाएं, जैसे कि 13 में जोड़ना/घटाना/गुणा करना आदि, की जा सकती है। 13 को 1 और 3 में तोड़ने तथा फिर 1 और 3 पर गणितीय संक्रियाएं करने की अनुमति नहीं है।)

1 - 12 - 96 - 99  
31 - 42 - 336 - 339

- Ans
- 1. 45 - 52 - 364 - 370
  - 2. 32 - 40 - 317 - 328
  - 3. 37 - 48 - 384 - 387
  - 4. 30 - 41 - 328 - 336

Question ID : 441009528741  
Option 1 ID : 4410092070369  
Option 2 ID : 4410092070370  
Option 3 ID : 4410092070368  
Option 4 ID : 4410092070371

Adda247

# Test Prime

**ALL EXAMS, ONE SUBSCRIPTION**



**1,00,000+**  
Mock Tests



**Personalised  
Report Card**



**Unlimited  
Re-Attempt**



**600+**  
Exam Covered



**25,000+** Previous  
Year Papers



**500%**  
Refund



**ATTEMPT FREE MOCK NOW**

Q.2 निम्नलिखित अक्षर और प्रतीक श्रृंखला का संदर्भ लीजिए और प्रश्न का उत्तर दीजिए। गिनती केवल बाएँ से दाएँ की जानी है।  
(बाएँ) & U © V S € P £ D @ & & D R & N % V S \$ B \* (दाएँ)  
ऐसे कितने प्रतीक हैं, जिनमें से प्रत्येक के ठीक पहले एक अक्षर और ठीक बाद में भी एक अक्षर है?

- Ans
- 1. 8
  - 2. 5
  - 3. 7
  - 4. 6

Question ID : 441009794576  
Option 1 ID : 4410093132306  
Option 2 ID : 4410093132305  
Option 3 ID : 4410093132304  
Option 4 ID : 4410093132303

Q.3 निम्नलिखित अक्षर श्रृंखला का संदर्भ लीजिए और नीचे दिए गए प्रश्न का उत्तर दीजिए। गिनती केवल बाएँ से दाएँ की जानी चाहिए।

(बाएँ) W A Q D F H G T B Y M R E S I C X Z O U K (दाएँ)

ऐसे कितने व्यंजन हैं, जिनमें से प्रत्येक के ठीक पहले एक स्वर और ठीक बाद में भी एक स्वर आता है?

- Ans
- 1. 1
  - 2. 2
  - 3. 0
  - 4. 3

Question ID : 441009216398  
Option 1 ID : 441009849632  
Option 2 ID : 441009849633  
Option 3 ID : 441009849631  
Option 4 ID : 441009849634

Q.4 निम्नलिखित त्रिकों में, प्रत्येक अक्षर-समूह एक निश्चित तर्क का अनुसरण करते हुए, अगले समूह से संबंधित है। दिए गए विकल्पों में से उस विकल्प का चयन कीजिए जो समान तर्क का अनुसरण करता हो।

LIKE - LEKI - EKIL  
POUR - PRUO - RUOP

- Ans
- 1. SING - ISNG - GINS
  - 2. CAKE - CAEK - AKEC
  - 3. CART - CRAT - TRAC
  - 4. SLAP - SPAL - PALS

Question ID : 441009767182  
Option 1 ID : 4410093022723  
Option 2 ID : 4410093022724  
Option 3 ID : 4410093022722  
Option 4 ID : 4410093022721

Q.5 दी गई शृंखला को तार्किक रूप से पूर्ण बनाने के लिए, निम्नलिखित में से कौन-सा अक्षर-संख्या समूह प्रश्न-चिह्न (?) को प्रतिस्थापित करेगा?

DU25, HO36, MH49, ?

- Ans
- 1. ZS61
  - 2. ZS64
  - 3. SZ61
  - 4. SZ64

Question ID : 441009346755  
Option 1 ID : 4410091353088  
Option 2 ID : 4410091353087  
Option 3 ID : 4410091353085  
Option 4 ID : 4410091353086

Q.6 वर्णमाला क्रम के आधार पर, निम्नलिखित चार में से तीन किसी निश्चित तरीके से एक समान हैं और इस प्रकार एक ग्रुप बनाते हैं। कौन-सा उस ग्रुप से संबंधित नहीं है?  
(नोट: असंगत अक्षर-समूह, अक्षर समूह में व्यंजनों/स्वरों की संख्या या उनकी स्थिति पर आधारित नहीं है)

- Ans
- 1. TXU
  - 2. VYX
  - 3. MQN
  - 4. GKH

Question ID : 441009785449  
Option 1 ID : 4410093095799  
Option 2 ID : 4410093095802  
Option 3 ID : 4410093095800  
Option 4 ID : 4410093095801

Q.7 निम्नलिखित शृंखला का संदर्भ लें और नीचे दिए गए प्रश्न का उत्तर दें (सभी संख्याएँ केवल एकल-अंकीय संख्याएँ हैं)।  
(बाएँ) 4 2 1 5 3 4 6 4 9 5 7 3 7 5 9 8 5 2 1 3 7 4 5 2 4 8 (दाएँ)  
ऐसे कितने विषम अंक हैं जिनमें से प्रत्येक के ठीक पहले एक सम अंक है और ठीक बाद भी एक सम अंक है?

- Ans
- 1. 3
  - 2. 2
  - 3. 4
  - 4. 5

Question ID : 441009783647  
Option 1 ID : 4410093088592  
Option 2 ID : 4410093088591  
Option 3 ID : 4410093088593  
Option 4 ID : 4410093088594

Q.8 E, F, G, I, K, L और M में से प्रत्येक की परीक्षा सोमवार से शुरू होकर रविवार को समाप्त होने वाले एक ही सप्ताह के अलग-अलग दिन है। M से पहले किसी की भी परीक्षा नहीं होती है। M और F के बीच केवल तीन लोगों की परीक्षा होती है। F और E के बीच केवल एक व्यक्ति की परीक्षा होती है। G की परीक्षा बुधवार को होती है। I की परीक्षा L के बाद किसी दिन लेकिन K से पहले किसी दिन होती है। सप्ताह के किस दिन I की परीक्षा है?

- Ans
- 1. मंगलवार
  - 2. शनिवार
  - 3. सोमवार
  - 4. गुरुवार

Question ID : 441009216462  
Option 1 ID : 441009849888  
Option 2 ID : 441009849890  
Option 3 ID : 441009849887  
Option 4 ID : 441009849889

Q.9 अंग्रेजी वर्णमाला क्रम के आधार पर, निम्नलिखित चार अक्षर-समूह युग्मों में से तीन एक निश्चित तरीके से एकसमान हैं और इस प्रकार एक गुप बनाते हैं। कौन-सा अक्षर-समूह युग्म, उस गुप से संबंधित नहीं है?

(नोट: असंगत अक्षर-समूह युग्म, व्यंजनों/स्वरों की संख्या या उनकी स्थिति पर आधारित नहीं है।)

- Ans
- 1. NX-QK
  - 2. VF-YS
  - 3. AK-DX
  - 4. KU-MH

Question ID : 441009216445  
Option 1 ID : 441009849819  
Option 2 ID : 441009849821  
Option 3 ID : 441009849822  
Option 4 ID : 441009849820

Q.10 यदि '+' और '-' को आपस में बदल दिया जाए तथा 'x' और '÷' को आपस में बदल दिया जाए, तो निम्नलिखित समीकरण में '?' के स्थान पर क्या आएगा?  
 $1976 - 354 \div 475 \times 190 + 362 \div 567 \times 81 = ?$

- Ans
- 1. 723
  - 2. 372
  - 3. 327
  - 4. 732

Question ID : 441009554688  
Option 1 ID : 4410092174066  
Option 2 ID : 4410092174069  
Option 3 ID : 4410092174067  
Option 4 ID : 4410092174068

Q.11 ABATAGES शब्द में प्रत्येक स्वर को अंग्रेजी वर्णमाला क्रम में उसके तुरंत बाद वाले अक्षर से बदल दिया जाता है और प्रत्येक व्यंजन को अंग्रेजी वर्णमाला क्रम में उसके तुरंत पहले वाले अक्षर से बदल दिया जाता है। निम्नलिखित में से कौन-सा अक्षर इस प्रकार बने अक्षरों के नए समूह में ठीक दो बार दिखाई देगा?

- Ans
- 1. B
  - 2. F
  - 3. R
  - 4. S

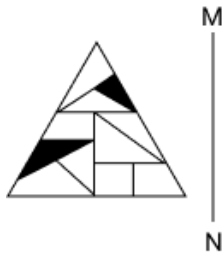
Question ID : 441009216471  
Option 1 ID : 441009849924  
Option 2 ID : 441009849923  
Option 3 ID : 441009849926  
Option 4 ID : 441009849925

Q.12 यदि संख्या '748659' के प्रत्येक विषम अंक में 3 जोड़ दिया जाए और प्रत्येक सम अंक से 1 घटा दिया जाए, तो इस प्रकार बनी संख्या में बाईं ओर से दूसरे अंक और दाईं ओर से दूसरे अंक का योगफल कितना होगा?

- Ans
- 1. 9
  - 2. 11
  - 3. 12
  - 4. 8

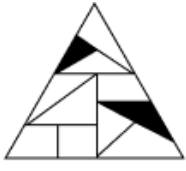
Question ID : 441009348655  
Option 1 ID : 4410091360939  
Option 2 ID : 4410091360938  
Option 3 ID : 4410091360941  
Option 4 ID : 4410091360940

Q.13 जब दर्पण को चित्रानुसार MN पर रखा जाता है, तो दी गई आकृति के सही दर्पण प्रतिबिंब का चयन कीजिए।



Ans

✓ 1.



✗ 2.



✗ 3.



✗ 4.



Question ID : 441009864844  
 Option 1 ID : 4410093412476  
 Option 2 ID : 4410093412478  
 Option 3 ID : 4410093412479  
 Option 4 ID : 4410093412477

Q.14 उस विकल्प आकृति का चयन कीजिए जिसमें दी गई आकृति उसके भाग के रूप में अंतर्निहित है।  
(घुमाने की अनुमति नहीं है)



Ans

✗ 1.



✓ 2.



✗ 3.



✗ 4.



Question ID : 4410091614471

Option 1 ID : 4410096376701

Option 2 ID : 4410096376702

Option 3 ID : 4410096376704

Option 4 ID : 4410096376703

Q.15 दी गई श्रृंखला में प्रश्न-चिह्न (?) के स्थान पर क्या आना चाहिए?

4, 11, 32, 95, 284, ?

Ans

✓ 1. 851

✗ 2. 854

✗ 3. 853

✗ 4. 852

Question ID : 441009216183

Option 1 ID : 441009848771

Option 2 ID : 441009848774

Option 3 ID : 441009848773

Option 4 ID : 441009848772

Q.16 किसी निश्चित कूट भाषा में, 'the one and' को 'ed rt yh' के रूप में कूटबद्ध किया गया है और 'only one you' को 'rt ok uy' के रूप में कूटबद्ध किया गया है। दी गई भाषा में 'one' को कैसे कूटबद्ध किया जाएगा?

- Ans  1. rt  
 2. ed  
 3. ok  
 4. yh

Question ID : 441009252053  
 Option 1 ID : 441009982138  
 Option 2 ID : 441009982136  
 Option 3 ID : 441009982139  
 Option 4 ID : 441009982137

Q.17 छह बॉक्स R, S, T, U, V और W एक के ऊपर एक रखे गए हैं लेकिन जरूरी नहीं कि वे इसी क्रम में हों। W को ऊपर से दूसरे स्थान पर रखा गया है। U के नीचे केवल एक बॉक्स रखा गया है। W और S के बीच केवल तीन बॉक्स रखे गए हैं। V को R के ठीक ऊपर रखा गया है। सबसे ऊपर कौन-सा बॉक्स रखा गया है?

- Ans  1. T  
 2. S  
 3. R  
 4. V

Question ID : 441009216659  
 Option 1 ID : 441009850676  
 Option 2 ID : 441009850677  
 Option 3 ID : 441009850678  
 Option 4 ID : 441009850675

Q.18 G, L की माता है। L, U की बहन है। T, N का पिता है। N, U का पुत्र है। G का N से क्या संबंध है?

- Ans  1. माता की बहन  
 2. माता  
 3. बहन  
 4. माता की माता

Question ID : 4410091619014  
 Option 1 ID : 4410096394929  
 Option 2 ID : 4410096394930  
 Option 3 ID : 4410096394931  
 Option 4 ID : 4410096394928

Q.19 L, A, Y, E, R, S और T में से प्रत्येक की परीक्षा सोमवार से शुरू होकर रविवार को समाप्त होने वाले एक ही सप्ताह के अलग-अलग दिन है। R की परीक्षा गुरुवार को है। T की परीक्षा, A की परीक्षा के बाद किसी दिन लेकिन S की परीक्षा से पहले किसी दिन है। L की परीक्षा, Y की परीक्षा के बाद किसी दिन लेकिन E की परीक्षा से पहले किसी दिन है। Y की परीक्षा, R की परीक्षा के बाद किसी एक दिन है। L और T के बीच कितने व्यक्तियों की परीक्षा है?

- Ans
- 1. दो
  - 2. तीन
  - 3. चार
  - 4. एक

Question ID : 4410091614380  
Option 1 ID : 4410096376338  
Option 2 ID : 4410096376339  
Option 3 ID : 4410096376340  
Option 4 ID : 4410096376337

Q.20 B, R, A, N, C, H और E एक गोल मेज के परितः उसके केंद्र की ओर अभिमुख होकर बैठे हैं। A, N के दाएँ तीसरे स्थान पर बैठा है। B के बाएँ से गिनने पर, N और B के बीच केवल एक व्यक्ति बैठा है। E के दाएँ से गिनने पर, C और E के बीच केवल दो व्यक्ति बैठे हैं। H, C का निकटतम पड़ोसी है। R के दाएँ तीसरे स्थान पर कौन बैठा है?

- Ans
- 1. C
  - 2. B
  - 3. A
  - 4. E

Question ID : 4410091614346  
Option 1 ID : 4410096376203  
Option 2 ID : 4410096376201  
Option 3 ID : 4410096376202  
Option 4 ID : 4410096376204

Section : General Awareness

Q.1 अप्रैल 2025 में नई दिल्ली में भारतीय नौसेना द्वारा आयोजित मौसम विज्ञान और समुद्र विज्ञान संगोष्ठी के तीसरे संस्करण का नाम क्या था?

- Ans
- 1. मेघयान-15
  - 2. मेघयान-25
  - 3. मेघयान-35
  - 4. मेघयान-20

Question ID : 441009207049  
Option 1 ID : 441009814139  
Option 2 ID : 441009814141  
Option 3 ID : 441009814142  
Option 4 ID : 441009814140

Q.2 भारत में भारी उद्योगों के संकेंद्रण के लिए कौन-सा औद्योगिक क्षेत्र जाना जाता है?

- Ans
- 1. दिल्ली-गुड़गांव
  - 2. बेंगलुरु-तमिलनाडु
  - 3. मुंबई-पुणे
  - 4. छोटा नागपुर पठार

Question ID : 441009209669  
Option 1 ID : 441009823934  
Option 2 ID : 441009823935  
Option 3 ID : 441009823937  
Option 4 ID : 441009823936

Q.3 निम्नलिखित में से किस वर्ष में एकाधिकार और प्रतिबंधित व्यापार प्रथा अधिनियम लागू किया गया था?

- Ans
- 1. 1967
  - 2. 1966
  - 3. 1972
  - 4. 1969

Question ID : 441009646788  
Option 1 ID : 4410092541268  
Option 2 ID : 4410092541267  
Option 3 ID : 4410092541270  
Option 4 ID : 4410092541269

Q.4 निम्नलिखित में से किसने 2022 में, कर्नाटक संगीत में संगीत कलानिधि (Sangita Kalanidhi) पुरस्कार प्राप्त किया?

- Ans
- 1. लालगुडी जी.जे.आर. कृष्णन (Lalgudi GJR Krishnan)
  - 2. डॉ. एस सौम्या (Dr. S Sowmya)
  - 3. अरुणा रवि किरण (Aruna Ravi Kiran)
  - 4. टी.वी. गोपालकृष्णन (TV Gopalakrishnan)

Question ID : 441009608198  
Option 1 ID : 4410092387909  
Option 2 ID : 4410092387910  
Option 3 ID : 4410092387911  
Option 4 ID : 4410092387912

Q.5 हड़प्पा कला का एक प्रसिद्ध उदाहरण "नर्तकी (Dancing Girl)" मूर्तिकला किस स्थल पर पाई गई थी?

- Ans
- 1. कालीबंगा
  - 2. लोथल
  - 3. मोहनजो-दड़ो
  - 4. हड़प्पा

Question ID : 441009749116  
Option 1 ID : 4410092950292  
Option 2 ID : 4410092950293  
Option 3 ID : 4410092950295  
Option 4 ID : 4410092950294

Q.6 निम्नलिखित में से कौन-सा, शहरी अवसंरचना का हिस्सा है?

- Ans
- 1. पशुशाला
  - 2. बहुमंजिला पार्किंग स्थान
  - 3. फ़ार्म में अनाज कोषागार
  - 4. जुताई के टूल

Question ID : 441009337220  
Option 1 ID : 4410091314884  
Option 2 ID : 4410091314885  
Option 3 ID : 4410091314887  
Option 4 ID : 4410091314886

Q.7 निम्नलिखित में से कौन-सा कथन, भारतीय संविधान के अनुच्छेद 2 और 3 के अंतर्गत अधिनियमित कानूनों के लिए सांविधानिक अधिदेश को सटीक रूप से प्रतिबिंबित करता है?

- Ans
- 1. संसद को एक अलग संवैधानिक संशोधन के माध्यम से पहली और चौथी अनुसूची में अनिवार्य रूप से संशोधन करना होगा।
  - 2. अनुच्छेद 3 के अंतर्गत कानून केवल राष्ट्रपति की पूर्व स्वीकृति से ही राज्य विधानमंडलों द्वारा प्रस्तुत किए जा सकते हैं।
  - 3. इसमें पहली और चौथी अनुसूची में आवश्यक संशोधन शामिल होने चाहिए और इसमें पूरक और आकस्मिक प्रावधान भी शामिल हो सकते हैं।
  - 4. ऐसे कानूनों को अनुसूचियों को प्रभावित करने से पहले कम से कम आधे राज्यों के अनुसमर्थन की आवश्यकता होती है।

Question ID : 441009671869  
Option 1 ID : 4410092641571  
Option 2 ID : 4410092641573  
Option 3 ID : 4410092641572  
Option 4 ID : 4410092641570

Q.8 "मेक इन इंडिया" पहल के अंतर्गत, 2024 में भारत के लिए निम्नलिखित में से किस उपलब्धि को एक महत्वपूर्ण कीर्तमान के रूप में रेखांकित किया गया था?

- Ans
- 1. भारत विश्व का सबसे बड़ा रत्न और आभूषण उत्पादक बन गया है।
  - 2. भारत विश्व का पांचवां सबसे बड़ा परिवहन लॉजिस्टिक्स प्रदाता देश है।
  - 3. भारत दुनिया का दूसरा सबसे बड़ा मोबाइल फोन निर्माता बन गया है।
  - 4. भारत विश्व का तीसरा सबसे-बड़ा निर्माण सेवा निर्यातक बनकर उभरा है।

Question ID : 441009672126  
Option 1 ID : 4410092642601  
Option 2 ID : 4410092642599  
Option 3 ID : 4410092642598  
Option 4 ID : 4410092642600

Q.9 निम्नलिखित में से किसे 'ट्रैंड ओल्ड मैन ऑफ इंडिया' कहा जाता है और वह भारतीय राष्ट्रीय कांग्रेस के एक प्रमुख नेता थे?

- Ans
- 1. लाला लाजपत राय
  - 2. दादाभाई नौरोजी
  - 3. बिपिन चंद्र पाल
  - 4. बाल गंगाधर तिलक

Question ID : 441009367464  
Option 1 ID : 4410091435812  
Option 2 ID : 4410091435811  
Option 3 ID : 4410091435813  
Option 4 ID : 4410091435810

Q.10 1526 में इब्राहिम लोदी को हराने के बाद बाबर ने किन दो प्रमुख शहरों पर कब्जा किया?

- Ans
- 1. दिल्ली और लाहौर
  - 2. आगरा और फतेहपुर सीकरी
  - 3. दिल्ली और आगरा
  - 4. काबुल और दिल्ली

Question ID : 441009205150  
Option 1 ID : 441009806821  
Option 2 ID : 441009806822  
Option 3 ID : 441009806823  
Option 4 ID : 441009806824

Q.11 लक्षद्वीप द्वीप समूह मुख्यतः \_\_\_\_\_ से बना है।

- Ans
- 1. ज्वालामुखी-शैलों
  - 2. प्रवाल द्वीपसमूह
  - 3. ग्रेनाइट शैलों
  - 4. बालू टिलों

Question ID : 441009213134  
Option 1 ID : 441009836613  
Option 2 ID : 441009836614  
Option 3 ID : 441009836615  
Option 4 ID : 441009836616

Q.12 संन्यासी विद्रोह, जिसका नेतृत्व हिंदू और मुस्लिम भिक्षुओं द्वारा किया गया था और जो ग्रामीणों से मिलने वाले दान और धार्मिक शुल्कों (religious levies) पर निर्वाह करते थे, निम्नलिखित में से किस स्थान से शुरू हुआ था?

- Ans
- 1. पंजाब
  - 2. अवध
  - 3. बंगाल
  - 4. मैसूर

Question ID : 4410091551155  
Option 1 ID : 4410096126868  
Option 2 ID : 4410096126869  
Option 3 ID : 4410096126867  
Option 4 ID : 4410096126870

Q.13 भारतीय अंतरिक्ष अनुसंधान संगठन (ISRO) चंद्रयान-5 मिशन को किस देश के सहयोग से शुरू करने की तैयारी कर रहा है?

- Ans
- 1. संयुक्त राज्य अमेरिका
  - 2. जापान
  - 3. फ्रांस
  - 4. रूस

Question ID : 441009207424  
Option 1 ID : 441009815690  
Option 2 ID : 441009815689  
Option 3 ID : 441009815691  
Option 4 ID : 441009815688

Q.14 2025 में, किस प्रकाशन ने राष्ट्रीय रिपोर्टिंग के लिए पुलित्जर पुरस्कार जीता?

- Ans
- 1. ब्लूमबर्ग
  - 2. द न्यू यॉर्क टाइम्स
  - 3. द वॉल स्ट्रीट जर्नल
  - 4. द वाशिंगटन पोस्ट

Question ID : 441009282552  
Option 1 ID : 4410091097405  
Option 2 ID : 4410091097402  
Option 3 ID : 4410091097403  
Option 4 ID : 4410091097404

Q.15 2024 में श्रीलंका के नए प्रधान मंत्री कौन बने?

- Ans
- 1. महिंदा राजपक्ष
  - 2. अरुण कुमार दिसानायके
  - 3. हरिणी अमरसूर्या
  - 4. रानिल विक्रमसिंघे

Question ID : 441009217409  
Option 1 ID : 441009853594  
Option 2 ID : 441009853593  
Option 3 ID : 441009853592  
Option 4 ID : 441009853595

Q.16 दिसंबर 2024 में प्रकाशित रिपोर्ट के अनुसार, भारत सरकार द्वारा 111 वर्षों के बाद किस स्मारक से राष्ट्रीय स्मारक का दर्जा छीन लिया गया था?

- Ans
- 1. जॉन निकोलसन की प्रतिमा
  - 2. फोर्ट विलियम
  - 3. सेंट जॉर्ज कैथेड्रल
  - 4. विक्टोरिया मेमोरियल

Question ID : 441009375539  
Option 1 ID : 4410091467710  
Option 2 ID : 4410091467713  
Option 3 ID : 4410091467712  
Option 4 ID : 4410091467711

Q.17 उच्च HDI मान वाला देश आमतौर पर निम्नलिखित में से क्या दर्शाता है?

- Ans
- 1. स्वास्थ्य सेवाओं और शिक्षा तक सीमित पहुंच
  - 2. उच्च आय असमानता और गरीबी दर
  - 3. मानव विकास के उच्च स्तर
  - 4. निम्न जीवन प्रत्याशा और शिक्षा प्राप्ति

Question ID : 441009626790  
Option 1 ID : 4410092461315  
Option 2 ID : 4410092461313  
Option 3 ID : 4410092461314  
Option 4 ID : 4410092461312

Q.18 80% आयनित 0.01 N अम्ल विलयन का pH \_\_\_\_\_ होगा।

- Ans
- 1. 0.0269
  - 2. 0.2096
  - 3. 20.09
  - 4. 2.0969

Question ID : 441009616565  
Option 1 ID : 4410092420432  
Option 2 ID : 4410092420430  
Option 3 ID : 4410092420431  
Option 4 ID : 4410092420429

Q.19 निम्नलिखित में से कौन-सा, 71वें संशोधन अधिनियम के संवैधानिक प्रभाव को सटीक रूप से प्रतिबिंबित करता है?

- Ans
- 1. मतदान की कानूनी आयु को कम किया गया और चुनावी भागीदारी का विस्तार किया गया।
  - 2. संस्थागत सुधारों के माध्यम से ग्रामीण स्वशासन का संवैधानिककरण किया गया।
  - 3. राष्ट्रीय राजधानी क्षेत्र को विधायी और कार्यकारी स्वायत्तता प्रदान किया गया।
  - 4. आठवीं अनुसूची में तीन अतिरिक्त क्षेत्रीय भाषाओं को मान्यता देकर इसे और अधिक विस्तृत किया गया।

Question ID : 441009671778  
Option 1 ID : 4410092641207  
Option 2 ID : 4410092641209  
Option 3 ID : 4410092641206  
Option 4 ID : 4410092641208

Q.20 ले चैटेलियर के सिद्धांत के अनुसार, कौन-सी स्थिति मुख्य रूप से हैबर प्रक्रिया की साम्यावस्था को अमोनिया निर्माण की ओर स्थानांतरित करती है?

- Ans
- 1. निम्न तापमान और निम्न दाब
  - 2. उत्प्रेरक के साथ निम्न दाब और उच्च तापमान
  - 3. उच्च दाब और निम्न तापमान
  - 4. निम्न दाब और उच्च तापमान

Question ID : 441009616569  
 Option 1 ID : 4410092420448  
 Option 2 ID : 4410092420447  
 Option 3 ID : 4410092420445  
 Option 4 ID : 4410092420446

Section : Arithmetical and Numerical Ability

Q.1 49 cm ऊंचाई और 4 cm त्रिज्या वाले बेलन का आयतन ज्ञात कीजिए।

$$\left(\pi = \frac{22}{7} \text{ लीजिए}\right)$$

- Ans
- 1. 2382 cm<sup>3</sup>
  - 2. 2455 cm<sup>3</sup>
  - 3. 2464 cm<sup>3</sup>
  - 4. 2494 cm<sup>3</sup>

Question ID : 441009621940  
 Option 1 ID : 4410092441894  
 Option 2 ID : 4410092441893  
 Option 3 ID : 4410092441892  
 Option 4 ID : 4410092441895

Q.2 ₹3600 को तीन व्यक्तियों M, N और T में बाँटें। यदि M और T के हिस्से 16 : 14 के अनुपात में हैं तथा N का हिस्सा, M और T के कुल हिस्से का 50% है, तो N का हिस्सा (₹ में) कितना है?

- Ans
- 1. 1202
  - 2. 1201
  - 3. 1200
  - 4. 1198

Question ID : 441009898432  
 Option 1 ID : 4410093547799  
 Option 2 ID : 4410093547801  
 Option 3 ID : 4410093547798  
 Option 4 ID : 4410093547800

Q.3 1.2, 3.2 और 0.78 के बीच चतुर्थानुपाती ज्ञात कीजिए।

- Ans
- 1. 1.04
  - 2. 2.08
  - 3. 2.04
  - 4. 1.08

Question ID : 44100944751  
 Option 1 ID : 441009178232  
 Option 2 ID : 441009178233  
 Option 3 ID : 441009178235  
 Option 4 ID : 441009178234

Q.4 दो पाइप P और Q एक टैंक को क्रमशः 15 मिनट और 18 मिनट में भर सकते हैं। यदि दोनों पाइप को एक साथ चालू किया जाए, तो टैंक को पूरा भरने में कितना समय लगेगा?

- Ans
- 1.  $9\frac{3}{13}$  मिनट
  - 2.  $8\frac{2}{11}$  मिनट
  - 3.  $7\frac{2}{3}$  मिनट
  - 4.  $6\frac{3}{5}$  मिनट

Question ID : 4410096036  
 Option 1 ID : 44100923924  
 Option 2 ID : 44100923923  
 Option 3 ID : 44100923922  
 Option 4 ID : 44100923921

Q.5 10 संख्याओं का योग 684 है। उनका औसत ज्ञात कीजिए।

- Ans
- 1. 69.4
  - 2. 66.4
  - 3. 68.4
  - 4. 67.4

Question ID : 441009581969  
 Option 1 ID : 4410092283004  
 Option 2 ID : 4410092283005  
 Option 3 ID : 4410092283002  
 Option 4 ID : 4410092283003

Q.6 1204 सैनिकों के गैरिसन के पास 24 दिनों का राशन है। यदि गैरिसन में सैनिकों की संख्या बढ़ाकर 1806 कर दी जाए, तो राशन कितने समय (दिनों में) तक चलेगा?

- Ans
- 1. 15
  - 2. 16
  - 3. 17
  - 4. 18

Question ID : 441009522873  
Option 1 ID : 4410092046912  
Option 2 ID : 4410092046911  
Option 3 ID : 4410092046913  
Option 4 ID : 4410092046914

Q.7 किस राशि (₹ में) पर 2 वर्षों में 12% वार्षिक ब्याज दर से साधारण ब्याज के रूप में ₹1680 प्राप्त होगा?

- Ans
- 1. 403.2
  - 2. 7000
  - 3. 14000
  - 4. 3500

Question ID : 441009852629  
Option 1 ID : 4410093363491  
Option 2 ID : 4410093363488  
Option 3 ID : 4410093363490  
Option 4 ID : 4410093363489

Q.8 एक घनाभ की लंबाई, चौड़ाई और ऊंचाई का योग 25 cm है और उसके विकर्ण की लंबाई 15 cm है। घनाभ का सम्पूर्ण पृष्ठीय क्षेत्रफल ज्ञात कीजिए।

- Ans
- 1. 200 cm<sup>2</sup>
  - 2. 225 cm<sup>2</sup>
  - 3. 625 cm<sup>2</sup>
  - 4. 400 cm<sup>2</sup>

Question ID : 44100921346  
Option 1 ID : 44100985134  
Option 2 ID : 44100985131  
Option 3 ID : 44100985132  
Option 4 ID : 44100985133

Q.9 एक मोटर चालक 50 मिनट में 30 km की दूरी तय करता है जिसमें प्रथम 14 मिनट में उसकी चाल  $x$  kmph है, अगले 25 मिनट के लिए उसकी चाल दोगुनी है और उसके बाद शेष दूरी वह अपनी मूल चाल से तय करता है।  $x$  का मान ज्ञात कीजिए।

- Ans
- 1. 21
  - 2. 24
  - 3. 29
  - 4. 27

Question ID : 441009543103  
Option 1 ID : 4410092127809  
Option 2 ID : 4410092127808  
Option 3 ID : 4410092127811  
Option 4 ID : 4410092127810

Q.10 5 संख्याओं का औसत 16 निकाला गया। बाद में पाया गया कि दो संख्याएँ 4 और 21 गलती से 8 और 12 के रूप में लिखी गई थीं। सही औसत ज्ञात कीजिए।

- Ans
- 1. 18
  - 2. 19
  - 3. 14
  - 4. 17

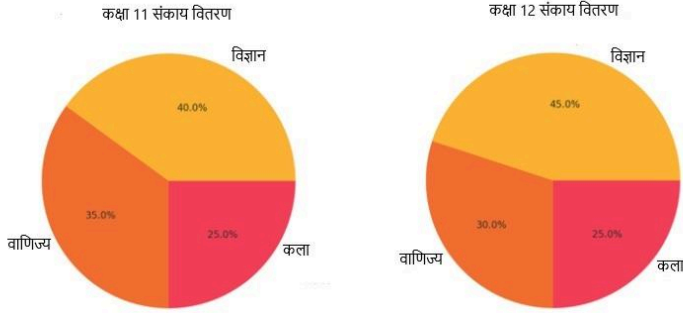
Question ID : 441009544138  
Option 1 ID : 4410092131950  
Option 2 ID : 4410092131951  
Option 3 ID : 4410092131949  
Option 4 ID : 4410092131948

Q.11 एक दुकानदार अपने सामान को 45% की हानि पर बेचने का दावा करता है, लेकिन वह दोषपूर्ण तराजू का उपयोग करके 90% का लाभ प्राप्त करता है। 1 kg वजन के लिए उसके द्वारा उपयोग किया गया वास्तविक वजन (दशमलव के एक स्थान तक पूर्णांकित) ज्ञात कीजिए।

- Ans
- 1. 291.4 gm
  - 2. 285.9 gm
  - 3. 289.5 gm
  - 4. 289.8 gm

Question ID : 441009561348  
Option 1 ID : 4410092200661  
Option 2 ID : 4410092200660  
Option 3 ID : 4410092200659  
Option 4 ID : 4410092200662

Q.12 निम्नलिखित पाई आरेखों का अध्ययन कीजिए और प्रश्न का उत्तर दीजिए।



कक्षा 11 में छात्रों की संख्या 200 है और कक्षा 12 में छात्रों की संख्या 240 है। कक्षा 11 और कक्षा 12 में विज्ञान संकाय के छात्रों की कुल संख्या ज्ञात कीजिए।

- Ans
- 1. 192
  - 2. 168
  - 3. 142
  - 4. 188

Question ID : 4410091528698  
 Option 1 ID : 4410096037950  
 Option 2 ID : 4410096037948  
 Option 3 ID : 4410096037947  
 Option 4 ID : 4410096037949

Q.13 रूपेश बैंक में ₹57,500 का निवेश करता है। यदि पहले वर्ष ब्याज दर 5% वार्षिक थी और दूसरे वर्ष की ब्याज दर पहले वर्ष की दर से 3% वार्षिक अधिक थी, तो वार्षिक रूप से संयोजित ब्याज को ध्यान में रखते हुए, दो वर्षों में उसे चक्रवृद्धि ब्याज (₹ में) कितना प्राप्त होगा?

- Ans
- 1. 7,505
  - 2. 7,955
  - 3. 7,355
  - 4. 7,705

Question ID : 441009573217  
 Option 1 ID : 4410092247989  
 Option 2 ID : 4410092247991  
 Option 3 ID : 4410092247990  
 Option 4 ID : 4410092247988

Q.14 अक्षय का वेतन ₹12,000 प्रति माह है। वह ₹5,500 घर के किराए पर, ₹1,500 बिलों पर खर्च करता है और बाकी की राशि उसकी मासिक बचत है। यदि उसने अपने जन्मदिन के महीने में जन्मदिन मनाने के लिए अपनी पूरी मासिक बचत खर्च कर दी तो एक वर्ष में उसकी बचत (₹ में) ज्ञात कीजिए।

- Ans
- 1. 45,000
  - 2. 50,000
  - 3. 60,000
  - 4. 55,000

Question ID : 441009209380  
Option 1 ID : 441009822806  
Option 2 ID : 441009822805  
Option 3 ID : 441009822804  
Option 4 ID : 441009822803

Q.15  $\frac{\left(\frac{19}{18}\right)}{\left(\frac{19}{5}\right)} \div \left(\frac{2}{7} \times \frac{14}{6} + \frac{4}{6}\right)$  को सरल कीजिए।

- Ans
- 1.  $\frac{3}{11}$
  - 2.  $\frac{13}{22}$
  - 3.  $\frac{5}{12}$
  - 4.  $\frac{5}{24}$

Question ID : 441009912367  
Option 1 ID : 4410093603721  
Option 2 ID : 4410093603722  
Option 3 ID : 4410093603720  
Option 4 ID : 4410093603719

Q.16 दो संख्याओं का महत्तम समापवर्तक (H.C.F.) और लघुत्तम समापवर्त्य (L.C.M.) क्रमशः 17 और 255 हैं। यदि उनमें से एक संख्या 51 है, तो दूसरी संख्या ज्ञात कीजिए।

- Ans
- 1. 85
  - 2. 102
  - 3. 68
  - 4. 119

Question ID : 441009125514  
Option 1 ID : 441009498902  
Option 2 ID : 441009498899  
Option 3 ID : 441009498900  
Option 4 ID : 441009498901

Q.17 एक व्यापारी ₹6,000 अंकित मूल्य की एक वस्तु को क्रमशः 20% और 10% की दो क्रमिक छूट पर खरीदता है। वह उस वस्तु की मरम्मत पर ₹680 खर्च करता है और उसे ₹6,000 में बेच देता है। उसका लाभ या हानि प्रतिशत ज्ञात कीजिए।

- Ans
- 1. लाभ - 25%
  - 2. हानि - 15%
  - 3. हानि - 5%
  - 4. लाभ - 20%

Question ID : 441009208800  
Option 1 ID : 441009820484  
Option 2 ID : 441009820486  
Option 3 ID : 441009820483  
Option 4 ID : 441009820485

Q.18 दो ट्रेनों, एक-दूसरे से 300 km की दूरी पर स्थित दो स्टेशनों से समानांतर पटरियों पर एक-दूसरे की ओर यात्रा करना प्रारंभ करती हैं। यदि दोनों ट्रेनों किसी एक स्टेशन से 135 km की दूरी पर एक-दूसरे को पार करती हैं, तो धीमी ट्रेन की चाल और तेज ट्रेन की चाल का अनुपात कितना है?

- Ans
- 1. 12 : 17
  - 2. 10 : 13
  - 3. 7 : 8
  - 4. 9 : 11

Question ID : 441009125521  
Option 1 ID : 441009498930  
Option 2 ID : 441009498929  
Option 3 ID : 441009498927  
Option 4 ID : 441009498928

Q.19 15 वस्तुओं का क्रय मूल्य 12 वस्तुओं के विक्रय मूल्य के बराबर है। लाभ प्रतिशत ज्ञात कीजिए।

- Ans
- 1. 25%
  - 2. 22%
  - 3. 20%
  - 4. 30%

Question ID : 4410091639885  
Option 1 ID : 4410096476752  
Option 2 ID : 4410096476751  
Option 3 ID : 4410096476750  
Option 4 ID : 4410096476753

Q.20 9 cm भुजा वाले घन से काटे जा सकने वाले सबसे बड़े लंब वृत्तीय शंक का आयतन (दशमलव के बाद दो स्थानों तक पूर्णांकित) ज्ञात कीजिए।

$$\left(\pi = \frac{22}{7} \text{ का उपयोग कीजिए।}\right)$$

- Ans
- 1. 109.39 cm<sup>3</sup>
  - 2. 139.09 cm<sup>3</sup>
  - 3. 199.93 cm<sup>3</sup>
  - 4. 190.93 cm<sup>3</sup>

Question ID : 441009621269  
 Option 1 ID : 4410092439210  
 Option 2 ID : 4410092439209  
 Option 3 ID : 4410092439208  
 Option 4 ID : 4410092439211

Section : English Language and Comprehension

Q.1 Select the wrongly spelt word.

- Ans
- 1. Grateful
  - 2. Approach
  - 3. Persue
  - 4. Convenient

Question ID : 4410091041346  
 Option 1 ID : 4410094114536  
 Option 2 ID : 4410094114537  
 Option 3 ID : 4410094114535  
 Option 4 ID : 4410094114534

Q.2 Select the option that best completes the given sentence.

She often \_\_\_\_\_ to focus, so she reviews her notes twice before every test.

- Ans
- 1. struggling
  - 2. struggled
  - 3. struggle
  - 4. struggles

Question ID : 4410091165209  
 Option 1 ID : 4410094595433  
 Option 2 ID : 4410094595434  
 Option 3 ID : 4410094595432  
 Option 4 ID : 4410094595431

Q.3 Select the option with the correct spelling to replace the underlined word in the given sentence.

I was engrossed only with its rifulgent beauty.

- Ans
- 1. refuelgent
  - 2. refulgent
  - 3. refullgent
  - 4. rifulgant

Question ID : 4410091544945  
Option 1 ID : 4410096102833  
Option 2 ID : 4410096102831  
Option 3 ID : 4410096102834  
Option 4 ID : 4410096102832

Q.4 Parts of a sentence are given below in jumbled order. Arrange the parts in the correct order to form a meaningful sentence.

is crucial for understanding climate change (P)/collecting data on atmospheric temperature (Q)/and predicting future environmental challenges (R)/over long periods of time (S)

- Ans
- 1. PQRS
  - 2. QSPR
  - 3. RSQP
  - 4. SQRP

Question ID : 441009164579  
Option 1 ID : 441009651940  
Option 2 ID : 441009651941  
Option 3 ID : 441009651943  
Option 4 ID : 441009651942

Q.5 In the given question, a statement divided into different segments is given. The first segment is fixed, rearrange the other segments to form a coherent statement.

Despite facing numerous obstacles, including  
(A) financial hardship and limited resources, the  
(B) made a groundbreaking discovery  
(C) young scientist remained determined  
(D) to pursue her research and eventually

- Ans
- 1. CDBA
  - 2. ACDB
  - 3. CBDA
  - 4. ABCD

Question ID : 4410091132330  
Option 1 ID : 4410094464729  
Option 2 ID : 4410094464726  
Option 3 ID : 4410094464728  
Option 4 ID : 4410094464727

Q.6 Choose the most suitable preposition to complete the sentence.

The solution was hidden \_\_\_\_ layers of misleading information and assumptions.

- Ans
- 1. above
  - 2. beneath
  - 3. across
  - 4. upon

Question ID : 4410091122885  
Option 1 ID : 4410094427107  
Option 2 ID : 4410094427106  
Option 3 ID : 4410094427105  
Option 4 ID : 4410094427108

Q.7 Select the most appropriate article to fill in the blank. If no article is needed, select 'No article required'.

They stayed in a cottage near \_\_\_\_ Alps during their winter holiday.

- Ans
- 1. No article required
  - 2. an
  - 3. the
  - 4. a

Question ID : 4410091113688  
Option 1 ID : 4410094390753  
Option 2 ID : 4410094390751  
Option 3 ID : 4410094390752  
Option 4 ID : 4410094390750

Q.8 Select the option that is the most appropriate antonym of the underlined word in the given sentence.

Her tacit approval was all he needed to proceed with the case.

- Ans
- 1. explicit
  - 2. reluctant
  - 3. authorised
  - 4. uncertain

Question ID : 4410091639652  
Option 1 ID : 4410096476023  
Option 2 ID : 4410096476025  
Option 3 ID : 4410096476022  
Option 4 ID : 4410096476024

Q.9 Select the most appropriate option that can substitute the underlined words in the given sentence.  
There was a colony of monkeys in Bareilly Goal and their attention drawing, playful or funny actions were always worth watching.

- Ans
- 1. bondage
  - 2. spheres
  - 3. munition
  - 4. antics

Question ID : 4410091543766  
Option 1 ID : 4410096098148  
Option 2 ID : 4410096098149  
Option 3 ID : 4410096098146  
Option 4 ID : 4410096098147

Q.10 Choose the most appropriate proverb to substitute the underlined segment in the given sentence.  
He invested all his money in one scheme despite the advice that he should diversify his funds.

- Ans
- 1. stopped on a dime
  - 2. put all his cards on the table
  - 3. put in his two cents worth
  - 4. put all his eggs in one basket

Question ID : 441009177633  
Option 1 ID : 441009702363  
Option 2 ID : 441009702360  
Option 3 ID : 441009702362  
Option 4 ID : 441009702361

Q.11 Select the most appropriate option to fill in the blank.

You are \_\_\_ good companion to be with when it comes to travelling.

- Ans
- 1. of
  - 2. an
  - 3. at
  - 4. a

Question ID : 441009482948  
Option 1 ID : 4410091887143  
Option 2 ID : 4410091887142  
Option 3 ID : 4410091887144  
Option 4 ID : 4410091887141

Q.12 Select the option that is the most appropriate antonym of the underlined word in the given sentence.

His response to criticism was remarkably composed.

- Ans
- 1. compulsive
  - 2. contentious
  - 3. perturbed
  - 4. nonchalant

Question ID : 4410091639667  
Option 1 ID : 4410096476066  
Option 2 ID : 4410096476064  
Option 3 ID : 4410096476065  
Option 4 ID : 4410096476063

Q.13 Complete the sentence with the appropriate word.  
She smiled \_\_\_\_\_ when she received the good news.

- Ans
- 1. rarely
  - 2. happily
  - 3. entirely
  - 4. clumsily

Question ID : 4410091552997  
Option 1 ID : 4410096134305  
Option 2 ID : 4410096134304  
Option 3 ID : 4410096134307  
Option 4 ID : 4410096134306

Q.14 Select the word that has the same meaning as the highlighted phrase in the given sentence.

The family's ability to manage or use money in a careful or wise way helped them save for emergencies.

- Ans
- 1. alloy
  - 2. annoyance
  - 3. thrift
  - 4. revenge

Question ID : 4410091600519  
Option 1 ID : 4410096321756  
Option 2 ID : 4410096321757  
Option 3 ID : 4410096321755  
Option 4 ID : 4410096321758

Q.15 Choose the correct proverb to replace the underlined segment.

The manager appreciated her because she believed that the things a person does are more significant than the things they say.

- Ans
- 1. in practicing what you preach
  - 2. that honesty is the best policy
  - 3. that actions speak louder than words
  - 4. that all that glitters is not gold

Question ID : 4410091555222

Option 1 ID : 4410096143488

Option 2 ID : 4410096143487

Option 3 ID : 4410096143489

Option 4 ID : 4410096143490

**Comprehension:**

Read the passage below and answer the questions that follow.

English physician Edward Jenner (1749–1823) is often considered to be the father of immunology, owing to his pioneering work in developing the smallpox vaccine — the world's first successful vaccine. Jenner demonstrated that inoculation with material from lesions caused by cowpox, a relatively mild disease, could protect against smallpox, a highly contagious and deadly disease. This process became known as vaccination, a term derived from the Latin *vacca*, meaning 'cow'. Jenner's work on vaccine development not only led to the eventual eradication of a deadly disease, saving countless lives, but also had profound implications for public health and immunology. Unlike many scientists of his time, Jenner did not seek to profit from his discovery. He published his findings and methods freely and encouraged others to adopt and refine his techniques. Nonetheless, although Jenner is credited with developing the first scientifically documented vaccine and pioneering the practice of vaccination, other forms of immunisation against smallpox had been evident in different cultures long before his work.

**SubQuestion No : 16**

Q.16 Which of the following titles best suits the passage?

- Ans
- 1. Edward Jenner: A Revolutionary in Public Health
  - 2. Edward Jenner and the Origins of Germ Theory
  - 3. Vaccination: A 21st-Century Innovation
  - 4. The Sole Inventor of Vaccines

Question ID : 4410091079899

Option 1 ID : 4410094256834

Option 2 ID : 4410094256832

Option 3 ID : 4410094256835

Option 4 ID : 4410094256833

**Comprehension:**

Read the passage below and answer the questions that follow.

English physician Edward Jenner (1749–1823) is often considered to be the father of immunology, owing to his pioneering work in developing the smallpox vaccine – the world's first successful vaccine. Jenner demonstrated that inoculation with material from lesions caused by cowpox, a relatively mild disease, could protect against smallpox, a highly contagious and deadly disease. This process became known as vaccination, a term derived from the Latin *vacca*, meaning 'cow'. Jenner's work on vaccine development not only led to the eventual eradication of a deadly disease, saving countless lives, but also had profound implications for public health and immunology. Unlike many scientists of his time, Jenner did not seek to profit from his discovery. He published his findings and methods freely and encouraged others to adopt and refine his techniques. Nonetheless, although Jenner is credited with developing the first scientifically documented vaccine and pioneering the practice of vaccination, other forms of immunisation against smallpox had been evident in different cultures long before his work.

**SubQuestion No : 17**

**Q.17** What factual detail is included in the passage to clarify the origin of the term 'vaccination'?

- Ans**
- 1. It is derived from the Latin word for 'cow'.
  - 2. It was coined by Jenner's contemporaries in France.
  - 3. It is named after Jenner's hometown.
  - 4. It refers to the act of inoculation itself.

Question ID : 4410091079900  
Option 1 ID : 4410094256838  
Option 2 ID : 4410094256839  
Option 3 ID : 4410094256837  
Option 4 ID : 4410094256836

**Comprehension:**

Read the passage below and answer the questions that follow.

English physician Edward Jenner (1749–1823) is often considered to be the father of immunology, owing to his pioneering work in developing the smallpox vaccine – the world's first successful vaccine. Jenner demonstrated that inoculation with material from lesions caused by cowpox, a relatively mild disease, could protect against smallpox, a highly contagious and deadly disease. This process became known as vaccination, a term derived from the Latin *vacca*, meaning 'cow'. Jenner's work on vaccine development not only led to the eventual eradication of a deadly disease, saving countless lives, but also had profound implications for public health and immunology. Unlike many scientists of his time, Jenner did not seek to profit from his discovery. He published his findings and methods freely and encouraged others to adopt and refine his techniques. Nonetheless, although Jenner is credited with developing the first scientifically documented vaccine and pioneering the practice of vaccination, other forms of immunisation against smallpox had been evident in different cultures long before his work.

**SubQuestion No : 18**

**Q.18** What inference can be drawn about Jenner's character based on the passage?

- Ans
- 1. He relied solely on laboratory trials and avoided public demonstration.
  - 2. He was altruistic, allowing others access to his findings.
  - 3. He was secretive about his methods and charged high fees for inoculation.
  - 4. He prioritised financial gain over scientific accuracy.

Question ID : 4410091079901  
Option 1 ID : 4410094256843  
Option 2 ID : 4410094256842  
Option 3 ID : 4410094256840  
Option 4 ID : 4410094256841



**Comprehension:**

Read the passage below and answer the questions that follow.


English physician Edward Jenner (1749–1823) is often considered to be the father of immunology, owing to his pioneering work in developing the smallpox vaccine – the world's first successful vaccine. Jenner demonstrated that inoculation with material from lesions caused by cowpox, a relatively mild disease, could protect against smallpox, a highly contagious and deadly disease. This process became known as vaccination, a term derived from the Latin *vacca*, meaning 'cow'. Jenner's work on vaccine development not only led to the eventual eradication of a deadly disease, saving countless lives, but also had profound implications for public health and immunology. Unlike many scientists of his time, Jenner did not seek to profit from his discovery. He published his findings and methods freely and encouraged others to adopt and refine his techniques. Nonetheless, although Jenner is credited with developing the first scientifically documented vaccine and pioneering the practice of vaccination, other forms of immunisation against smallpox had been evident in different cultures long before his work.

**SubQuestion No : 19**

**Q.19** Which of the following options best summarises the passage?

- Ans**
- 1. The concept of vaccines emerged in the 1900s through laboratory discoveries.
  - 2. Edward Jenner was the first and only figure to develop immunisation.
  - 3. Jenner's cowpox experiment led to a global medical revolution pertaining to immunisation.
  - 4. Jenner's vaccine was ineffective but it inspired further research.

Question ID : 4410091079902  
Option 1 ID : 4410094256846  
Option 2 ID : 4410094256844  
Option 3 ID : 4410094256845  
Option 4 ID : 4410094256847



**Comprehension:**

Read the passage below and answer the questions that follow.

English physician Edward Jenner (1749–1823) is often considered to be the father of immunology, owing to his pioneering work in developing the smallpox vaccine – the world's first successful vaccine. Jenner demonstrated that inoculation with material from lesions caused by cowpox, a relatively mild disease, could protect against smallpox, a highly contagious and deadly disease. This process became known as vaccination, a term derived from the Latin *vacca*, meaning 'cow'. Jenner's work on vaccine development not only led to the eventual eradication of a deadly disease, saving countless lives, but also had profound implications for public health and immunology. Unlike many scientists of his time, Jenner did not seek to profit from his discovery. He published his findings and methods freely and encouraged others to adopt and refine his techniques. Nonetheless, although Jenner is credited with developing the first scientifically documented vaccine and pioneering the practice of vaccination, other forms of immunisation against smallpox had been evident in different cultures long before his work.

**SubQuestion No : 20**

**Q.20** In the sentence '...although Jenner is credited with developing the first scientifically documented vaccine...', what is the most appropriate antonym for the word 'documented'?

- Ans**
- 1. Authentic
  - 2. Proven
  - 3. Inconclusive
  - 4. Unverified

Question ID : 4410091079903  
 Option 1 ID : 4410094256848  
 Option 2 ID : 4410094256851  
 Option 3 ID : 4410094256849  
 Option 4 ID : 4410094256850

## Section : Hindi Language and Comprehension

**Q.1** "पहाड़ के ऊपर की समतल जमीन" वाक्यांश के लिए निम्न में से कौनसा सार्थक शब्द है?

- Ans**
- 1. उपत्यका
  - 2. अधित्यका
  - 3. भूगर्भ
  - 4. पठार

Question ID : 4410091285780  
 Option 1 ID : 4410095074760  
 Option 2 ID : 4410095074759  
 Option 3 ID : 4410095074762  
 Option 4 ID : 4410095074761

Q.2 निम्नलिखित वाक्य में रेखांकित शब्द के विलोम शब्द का चयन दिए गए विकल्पों में से कीजिए-  
इन शब्दों की 'सन्धि' करें।

- Ans
- 1. वियोग
  - 2. व्यष्टि
  - 3. विरह
  - 4. विग्रह

Question ID : 4410091618659  
Option 1 ID : 4410096393507  
Option 2 ID : 4410096393509  
Option 3 ID : 4410096393508  
Option 4 ID : 4410096393510

Q.3 "यह एक \_\_\_\_\_ पुस्तक है।" रिक्त स्थान की पूर्ति उचित विशेषण से करें।

- Ans
- 1. पढ़ना
  - 2. खाता
  - 3. चलता
  - 4. रोचक

Question ID : 4410091288215  
Option 1 ID : 4410095084719  
Option 2 ID : 4410095084721  
Option 3 ID : 4410095084720  
Option 4 ID : 4410095084718

Q.4 उपयुक्त 'विशेषण' का चयन कर रिक्त स्थान की पूर्ति कीजिए।  
'सौम्या की टोपी ..... है।'

- Ans
- 1. भूत
  - 2. गोल
  - 3. सतही
  - 4. सूखा

Question ID : 4410091524889  
Option 1 ID : 4410096022760  
Option 2 ID : 4410096022759  
Option 3 ID : 4410096022761  
Option 4 ID : 4410096022762

Q.5 दिए गए वाक्य में अपादान कारक का चयन करके रिक्त स्थान की पूर्ति करें -  
पुस्तकालय में दुर्लभ ग्रंथों को सामान्य पुस्तकों ----- अलग रखने की व्यवस्था की गई।

- Ans  1. से  
 2. में  
 3. के लिए  
 4. पर

Question ID : 4410091547141  
 Option 1 ID : 4410096111438  
 Option 2 ID : 4410096111439  
 Option 3 ID : 4410096111437  
 Option 4 ID : 4410096111440

Q.6 'जने-जने की लकड़ी एक जने का बोझ' लोकोक्ति का सही अर्थ क्या होगा?

- Ans  1. संकट को होशियारी से दूर करें।  
 2. अपने वर्ग के लोग ही एक-दूसरे को समझ सकते हैं।  
 3. गरीब की किस्मत ही बुरी होती है।  
 4. सब से थोड़ा-थोड़ा मिले तो काम पूरा हो जाता है।

Question ID : 4410091624813  
 Option 1 ID : 4410096417779  
 Option 2 ID : 4410096417781  
 Option 3 ID : 4410096417780  
 Option 4 ID : 4410096417782

Q.7 सही विशेषण का चयन कर वाक्य को पूर्ण कीजिए।  
जेनिफर \_\_\_\_\_ है।

- Ans  1. अनुचित  
 2. बैंगनी  
 3. सीधा  
 4. अमेरिकी

Question ID : 4410091253961  
 Option 1 ID : 4410094948896  
 Option 2 ID : 4410094948895  
 Option 3 ID : 4410094948897  
 Option 4 ID : 4410094948894

Q.8 निम्नलिखित में से किस लोकोक्ति का अर्थ संगत नहीं है?

- Ans  1. खूँटे के बल बछड़ा कूदे - सेवा करने वाले को अच्छा फल मिलता है  
 2. छछूंदर के सिर में चमेली का तेल-अयोग्य व्यक्ति को अच्छी चीज़ देना  
 3. मोरी की ईंट चौबारे पर - छोटी चीज़ का बड़े काम में लाना  
 4. नौ सौ चूहे खा के बिल्ली हज को चली - जीवन भर कुकर्म करते रहे, अंत में भले बन बैठे

Question ID : 4410091626285  
 Option 1 ID : 4410096423529  
 Option 2 ID : 4410096423531  
 Option 3 ID : 4410096423530  
 Option 4 ID : 4410096423532

Q.9 इस बात से आत्मा का हास हुआ।  
 उपर्युक्त रेखांकित शब्द का पर्यायवाची क्या होगा ?

- Ans  1. क्षय  
 2. कष्ट  
 3. विनाश  
 4. ज़हर

Question ID : 4410091624858  
 Option 1 ID : 4410096417961  
 Option 2 ID : 4410096417962  
 Option 3 ID : 4410096417959  
 Option 4 ID : 4410096417960

Q.10 निम्नलिखित विकल्पों में से रेखांकित शब्द का विलोम पहचानिए।  
 'सूरदास जी ने इतने मधुर भजन लिखे हैं कि उनके पद जनमानस के लिए गोय बन गये।'

- Ans  1. प्रतीची  
 2. शीतल  
 3. अगेय  
 4. ग्राह्य

Question ID : 4410091629873  
 Option 1 ID : 4410096437579  
 Option 2 ID : 4410096437577  
 Option 3 ID : 4410096437578  
 Option 4 ID : 4410096437580

Q.11 निम्न में से वाक्य में रेखांकित शब्द का पर्यायवाची शब्द कौन-सा है ?  
'मैंने जीवन के लिए एक कठिन रास्ता चुना है।'

- Ans
- 1. दुर्जन
  - 2. कोमल
  - 3. दुस्तर
  - 4. कमज़ोर

Question ID : 4410091626506  
Option 1 ID : 4410096424399  
Option 2 ID : 4410096424396  
Option 3 ID : 4410096424398  
Option 4 ID : 4410096424397

Q.12 रात्रि के सघन तिमिर में चाँद की ज्योति चमक उठी।

वाक्य में प्रयुक्त तिमिर शब्द का विलोम क्या है?

- Ans
- 1. प्रकाश
  - 2. निर्मूल
  - 3. सापेक्ष
  - 4. संलग्न

Question ID : 4410091626317  
Option 1 ID : 4410096423658  
Option 2 ID : 4410096423660  
Option 3 ID : 4410096423659  
Option 4 ID : 4410096423657

Q.13 निम्न में से 'डींग मारना' मुहावरे का सही अर्थ कौन-सा है ?

- Ans
- 1. खारिज करना
  - 2. बढ़-बढ़ कर बातें करना
  - 3. अव्यवस्थित होना
  - 4. लुप्त हो जाना

Question ID : 4410091626198  
Option 1 ID : 4410096423191  
Option 2 ID : 4410096423190  
Option 3 ID : 4410096423189  
Option 4 ID : 4410096423192

Q.14 निम्नलिखित वाक्यांश के लिए सार्थक शब्द बताएं -  
'स्वयं का हित चाहने वाला'

- Ans  1. स्वार्थी  
 2. सर्वप्रिय  
 3. परोपकारी  
 4. दानी

Question ID : 4410091288522  
 Option 1 ID : 4410095085959  
 Option 2 ID : 4410095085958  
 Option 3 ID : 4410095085956  
 Option 4 ID : 4410095085957

Q.15 'समुद्र की तलहटी -----कौन-कौन सी मछलियाँ होती हैं?' वाक्य के रिक्त स्थान के लिए उपयुक्त कारक चिह्न कौन-सा है?

- Ans  1. के  
 2. के लिए  
 3. में  
 4. पर

Question ID : 4410091262919  
 Option 1 ID : 4410094984625  
 Option 2 ID : 4410094984626  
 Option 3 ID : 4410094984623  
 Option 4 ID : 4410094984624

#### Comprehension:

गद्यांश के आधार पर निम्नलिखित प्रश्नों के उत्तर दीजिए।

वैदिक साहित्य को पारंपरिक दृष्टिकोण से पवित्र माना जाता है; क्योंकि इसे ईश्वरीय देन के रूप में स्वीकार किया गया है। वेदों को नित्य अर्थात् शाश्वत माना गया है। जिन ऋषियों ने इसकी रचना की है, उनके बारे में समझा जाता है कि उन्होंने सीधे ईश्वर से इसे प्राप्त किया था। बहुत बाद में लिखित रूप में प्रस्तुत किए जाने के पहले तक, एक पीढ़ी से दूसरी पीढ़ी तक, मौखिक रूप में वेदों का प्रचार होता रहा। वैदिक पाठ्यक्रमों को कालक्रमानुसार दो भागों में विभक्त किया जा सकता है: प्रारंभिक वैदिक युग (1500 ई. पू. से 1000 ई. पू. तक), जिस समय ऋग्वेद की अधिकांश प्रार्थनाएँ रची गयीं और उत्तर वैदिक युग (1000 ई. पू. से 600 ई. पू. तक), जिस काल में शेष वेदों और उनकी शाखाओं का उद्भव हुआ। ये दो युग भारत में आर्यों के फैलाव की दो अवस्थाओं को उजागर करते हैं। ऋग्वेद की प्रार्थनाओं में जिस भौगोलिक क्षितिज का वर्णन है, उससे भारत में आर्यों के प्रारम्भिक निवास का पता चलता है।

SubQuestion No : 16

Q.16 गद्यांश के लिए उपयुक्त शीर्षक का चयन कीजिए।

- Ans  1. वैदिक साहित्य  
 2. छंद साहित्य  
 3. उपनिषद  
 4. स्मृति साहित्य

Question ID : 4410091626019  
 Option 1 ID : 4410096422497  
 Option 2 ID : 4410096422500  
 Option 3 ID : 4410096422499  
 Option 4 ID : 4410096422498

**Comprehension:**

गद्यांश के आधार पर निम्नलिखित प्रश्नों के उत्तर दीजिए।

वैदिक साहित्य को पारंपरिक दृष्टिकोण से पवित्र माना जाता है; क्योंकि इसे ईश्वरीय देन के रूप में स्वीकार किया गया है। वेदों को नित्य अर्थात् शाश्वत माना गया है। जिन ऋषियों ने इसकी रचना की है, उनके बारे में समझा जाता है कि उन्होंने सीधे ईश्वर से इसे प्राप्त किया था। बहुत बाद में लिखित रूप में प्रस्तुत किए जाने के पहले तक, एक पीढ़ी से दूसरी पीढ़ी तक, मौखिक रूप में वेदों का प्रचार होता रहा। वैदिक पाठ्यक्रमों को कालक्रमानुसार दो भागों में विभक्त किया जा सकता है: प्रारंभिक वैदिक युग (1500 ई. पू. से 1000 ई. पू. तक), जिस समय ऋग्वेद की अधिकांश प्रार्थनाएँ रची गयीं और उत्तर वैदिक युग (1000 ई. पू. से 600 ई. पू. तक), जिस काल में शेष वेदों और उनकी शाखाओं का उद्भव हुआ। ये दो युग भारत में आर्यों के फैलाव की दो अवस्थाओं को उजागर करते हैं। ऋग्वेद की प्रार्थनाओं में जिस भौगोलिक क्षितिज का वर्णन है, उससे भारत में आर्यों के प्रारंभिक निवास का पता चलता है।

**SubQuestion No : 17**

Q.17 वैदिक पाठ्यक्रमों को कालक्रमानुसार कितने भागों में विभक्त किया जा सकता है?

- Ans  1. दो  
 2. तीन  
 3. पाँच  
 4. चार

Question ID : 4410091626020

Option 1 ID : 4410096422503

Option 2 ID : 4410096422504

Option 3 ID : 4410096422501

Option 4 ID : 4410096422502

**Comprehension:**

गद्यांश के आधार पर निम्नलिखित प्रश्नों के उत्तर दीजिए।

वैदिक साहित्य को पारंपरिक दृष्टिकोण से पवित्र माना जाता है; क्योंकि इसे ईश्वरीय देन के रूप में स्वीकार किया गया है। वेदों को नित्य अर्थात् शाश्वत माना गया है। जिन ऋषियों ने इसकी रचना की है, उनके बारे में समझा जाता है कि उन्होंने सीधे ईश्वर से इसे प्राप्त किया था। बहुत बाद में लिखित रूप में प्रस्तुत किए जाने के पहले तक, एक पीढ़ी से दूसरी पीढ़ी तक, मौखिक रूप में वेदों का प्रचार होता रहा। वैदिक पाठ्यक्रमों को कालक्रमानुसार दो भागों में विभक्त किया जा सकता है: प्रारंभिक वैदिक युग (1500 ई. पू. से 1000 ई. पू. तक), जिस समय ऋग्वेद की अधिकांश प्रार्थनाएँ रची गयीं और उत्तर वैदिक युग (1000 ई. पू. से 600 ई. पू. तक), जिस काल में शेष वेदों और उनकी शाखाओं का उद्भव हुआ। ये दो युग भारत में आर्यों के फैलाव की दो अवस्थाओं को उजागर करते हैं। ऋग्वेद की प्रार्थनाओं में जिस भौगोलिक क्षितिज का वर्णन है, उससे भारत में आर्यों के प्रारंभिक निवास का पता चलता है।

**SubQuestion No : 18**

Q.18 ऋग्वेद की अधिकांश प्रार्थनाएँ किस युग में रची गयीं ?

- Ans  1. प्रारंभिक वैदिक युग  
 2. उपनिषद काल  
 3. उत्तर वैदिक युग  
 4. स्मृति काल

Question ID : 4410091626021

Option 1 ID : 4410096422506

Option 2 ID : 4410096422507

Option 3 ID : 4410096422505

Option 4 ID : 4410096422508

**Comprehension:**

गद्यांश के आधार पर निम्नलिखित प्रश्नों के उत्तर दीजिए।

वैदिक साहित्य को पारंपरिक दृष्टिकोण से पवित्र माना जाता है; क्योंकि इसे ईश्वरीय देन के रूप में स्वीकार किया गया है। वेदों को नित्य अर्थात् शाश्वत माना गया है। जिन ऋषियों ने इसकी रचना की है, उनके बारे में समझा जाता है कि उन्होंने सीधे ईश्वर से इसे प्राप्त किया था। बहुत बाद में लिखित रूप में प्रस्तुत किए जाने के पहले तक, एक पीढ़ी से दूसरी पीढ़ी तक, मौखिक रूप में वेदों का प्रचार होता रहा। वैदिक पाठ्यक्रमों को कालक्रमानुसार दो भागों में विभक्त किया जा सकता है: प्रारंभिक वैदिक युग (1500 ई. पू. से 1000 ई. पू. तक), जिस समय ऋग्वेद की अधिकांश प्रार्थनाएँ रची गयीं और उत्तर वैदिक युग (1000 ई. पू. से 600 ई. पू. तक), जिस काल में शेष वेदों और उनकी शाखाओं का उद्भव हुआ। ये दो युग भारत में आर्यों के फैलाव की दो अवस्थाओं को उजागर करते हैं। ऋग्वेद की प्रार्थनाओं में जिस भौगोलिक क्षितिज का वर्णन है, उससे भारत में आर्यों के प्रारंभिक निवास का पता चलता है।

**SubQuestion No : 19**

Q.19 निम्न में से गद्यांश में प्रयुक्त शब्द 'पवित्र' का विलोम शब्द कौन-सा है ?

- Ans
- 1. अकोमल
  - 2. अमानुषिक
  - 3. अपवित्र
  - 4. अकारण

Question ID : 4410091626022

Option 1 ID : 4410096422509

Option 2 ID : 4410096422511

Option 3 ID : 4410096422510

Option 4 ID : 4410096422512

**Comprehension:**

गद्यांश के आधार पर निम्नलिखित प्रश्नों के उत्तर दीजिए।

वैदिक साहित्य को पारंपरिक दृष्टिकोण से पवित्र माना जाता है; क्योंकि इसे ईश्वरीय देन के रूप में स्वीकार किया गया है। वेदों को नित्य अर्थात् शाश्वत माना गया है। जिन ऋषियों ने इसकी रचना की है, उनके बारे में समझा जाता है कि उन्होंने सीधे ईश्वर से इसे प्राप्त किया था। बहुत बाद में लिखित रूप में प्रस्तुत किए जाने के पहले तक, एक पीढ़ी से दूसरी पीढ़ी तक, मौखिक रूप में वेदों का प्रचार होता रहा। वैदिक पाठ्यक्रमों को कालक्रमानुसार दो भागों में विभक्त किया जा सकता है: प्रारंभिक वैदिक युग (1500 ई. पू. से 1000 ई. पू. तक), जिस समय ऋग्वेद की अधिकांश प्रार्थनाएँ रची गयीं और उत्तर वैदिक युग (1000 ई. पू. से 600 ई. पू. तक), जिस काल में शेष वेदों और उनकी शाखाओं का उद्भव हुआ। ये दो युग भारत में आर्यों के फैलाव की दो अवस्थाओं को उजागर करते हैं। ऋग्वेद की प्रार्थनाओं में जिस भौगोलिक क्षितिज का वर्णन है, उससे भारत में आर्यों के प्रारंभिक निवास का पता चलता है।

**SubQuestion No : 20**

Q.20 निम्न में से गद्यांश में प्रयुक्त शब्द 'उद्भव' का पर्यायवाची शब्द कौन-सा है ?

- Ans
- 1. उत्सुक
  - 2. उद्धार
  - 3. उद्देश्य
  - 4. उत्पत्ति

Question ID : 4410091626023

Option 1 ID : 4410096422514

Option 2 ID : 4410096422513

Option 3 ID : 4410096422515

Option 4 ID : 4410096422516

Q.1 माध्यमिक शिक्षा आयोग (1952-53) की अध्यक्षता निम्नलिखित में से किसके द्वारा की गई थी?

- Ans
- 1. डॉ. जे. पी. नाइक
  - 2. डॉ. ज़ाकिर हुसैन
  - 3. डॉ. ए. लक्ष्मणस्वामी मुदालियर
  - 4. डॉ. एस. राधाकृष्णन

Question ID : 4410091572294  
Option 1 ID : 4410096210173  
Option 2 ID : 4410096210171  
Option 3 ID : 4410096210170  
Option 4 ID : 4410096210172

Q.2 पियाजे के अनुसार, किस अवस्था में बच्चे प्रतीकों और भाषा का उपयोग करना शुरू करते हैं लेकिन उनमें तार्किक तर्क की कमी होती है?

- Ans
- 1. औपचारिक संक्रियात्मक अवस्था
  - 2. मूर्त संक्रियात्मक अवस्था
  - 3. संवेदीप्रेरक अवस्था
  - 4. पूर्व-संक्रियात्मक अवस्था

Question ID : 4410091607565  
Option 1 ID : 4410096349231  
Option 2 ID : 4410096349230  
Option 3 ID : 4410096349228  
Option 4 ID : 4410096349229

Q.3 नैतिक विकास की कौन-सी अवस्था इस विचार पर आधारित है कि 'तू मेरी कमर खुजा, मैं तेरी कमर खुजा दूंगा'?

- Ans
- 1. दूसरों को प्रसन्न करके प्रेम और स्वीकृति प्राप्त करना
  - 2. व्यक्तिगत लाभ और हित के लिए निष्पक्ष रूप से पक्षों का विनिमय करना
  - 3. सामाजिक सद्भाव को बनाए रखने के लिए नियमों का कर्तव्यनिष्ठा से पालन करना
  - 4. दंड और कष्ट से बचने के लिए नियमों का कड़ाई से पालन करना

Question ID : 4410091639242  
Option 1 ID : 4410096474531  
Option 2 ID : 4410096474530  
Option 3 ID : 4410096474532  
Option 4 ID : 4410096474529

Q.4 किस घटना ने समाजशास्त्र को एक विशिष्ट विद्याशाखा के रूप में स्थापित करने में योगदान दिया?

- Ans
- 1. पाषाण युग
  - 2. औद्योगिक क्रांति
  - 3. रोमन साम्राज्य
  - 4. पुनर्जागरण

Question ID : 4410091611387  
Option 1 ID : 4410096364403  
Option 2 ID : 4410096364404  
Option 3 ID : 4410096364405  
Option 4 ID : 4410096364406

Q.5 बालकों में व्यक्तित्व-विकास के बारे में कौन-सा कथन सत्य है?

- Ans
- 1. व्यक्तित्व केवल शैक्षणिक उपलब्धियों से उत्पन्न होता है।
  - 2. व्यक्तित्व धीरे-धीरे परिवेशीय अंतःक्रियाओं के माध्यम से विकसित होता है।
  - 3. व्यक्तित्व एक विशिष्ट आयु में अचानक उभरता है।
  - 4. व्यक्तित्व पूरी तरह से आनुवंशिक होता है और हमेशा के लिए नियत होता है।

Question ID : 4410091624495  
Option 1 ID : 4410096416517  
Option 2 ID : 4410096416515  
Option 3 ID : 4410096416518  
Option 4 ID : 4410096416516

Q.6 निम्नलिखित में से किसका उल्लेख भारतीय संविधान की उद्देशिका में मार्गदर्शक सिद्धांत के रूप में नहीं किया गया है?

- Ans
- 1. न्याय
  - 2. राजतंत्र
  - 3. स्वतंत्रता
  - 4. समानता

Question ID : 4410091604691  
Option 1 ID : 4410096337928  
Option 2 ID : 4410096337929  
Option 3 ID : 4410096337931  
Option 4 ID : 4410096337930

Q.7 किस विकासात्मक चरण के दौरान विद्यार्थी सामान्यतः परिचय अभाव (identity crises) और मनोदशा में बदलाव (mood swings) का अनुभव करते हैं?

- Ans
- 1. मध्य बाल्यावस्था, कौशल-निर्माण और साथियों के साथ संबंधों पर निरंतर ध्यान दिया जाता है।
  - 2. शैशवावस्था, जो मुख्य रूप से मूलभूत आवश्यकताओं और शीघ्र लगाव के निर्माण द्वारा चिह्नित होती है।
  - 3. वयस्कता, मुख्य रूप से कैरियर स्थायित्व और पारिवारिक उत्तरदायित्व पर केंद्रित होती है।
  - 4. किशोरावस्था, जिसमें आत्म-अन्वेषण, साथियों का प्रभाव और हार्मोनल परिवर्तन होते हैं।

Question ID : 4410091645426  
Option 1 ID : 4410096498237  
Option 2 ID : 4410096498236  
Option 3 ID : 4410096498238  
Option 4 ID : 4410096498239

Q.8 वर्तमान समय में शांति शिक्षा को आवश्यक क्यों माना जाता है?

- Ans
- 1. यह आर्थिक संवृद्धि को बढ़ावा देती है।
  - 2. यह राजनीतिक विचारधाराओं को बढ़ावा देती है।
  - 3. यह सांस्कृतिक एकरूपता लाती है।
  - 4. यह मानवजाति को हिंसा से दूर रहने और सामंजस्यपूर्ण जीवन जीने के लिए मार्गदर्शन करती है।

Question ID : 4410091652172  
Option 1 ID : 4410096524548  
Option 2 ID : 4410096524550  
Option 3 ID : 4410096524549  
Option 4 ID : 4410096524547

Q.9 86वें संवैधानिक संशोधन के अंतर्गत, भारतीय संविधान के किस अनुच्छेद में संशोधन करके बच्चों के लिए शिक्षा के अधिकार को शामिल किया गया?

- Ans
- 1. अनुच्छेद 45
  - 2. अनुच्छेद 21A
  - 3. अनुच्छेद 14
  - 4. अनुच्छेद 51A

Question ID : 4410091647840  
Option 1 ID : 4410096507618  
Option 2 ID : 4410096507619  
Option 3 ID : 4410096507617  
Option 4 ID : 4410096507620

Q.10 एक पाठ्यचर्या डिजाइनर शिक्षार्थियों में सामाजिक मूल्यों की अनुरूपता और समीक्षात्मक चिंतन के विकास, दोनों को बढ़ावा देना चाहता है। इस द्वि-उद्देश्य को प्राप्त करने के लिए समाजीकरण साधन के किस संयोजन को प्राथमिकता दी जानी चाहिए?

- Ans
- 1. सहपाठियों का दबाव और अनौपचारिक खेल
  - 2. पारिवारिक प्रभाव और जनसंपर्क माध्यम
  - 3. धार्मिक अनुदेश और व्यक्तिगत अनुचितन
  - 4. औपचारिक शिक्षा और अन्तर्क्रियात्मक समूह क्रियाकलाप

Question ID : 4410091608055

Option 1 ID : 4410096351158

Option 2 ID : 4410096351156

Option 3 ID : 4410096351159

Option 4 ID : 4410096351157

Q.11 व्यक्तित्व विकास के अध्ययन में किसे एक प्रमुख सिद्धांतकार माना जाता है?

- Ans
- 1. रवींद्रनाथ टैगोर (Rabindranath Tagore)
  - 2. लुई पाश्चर (Louis Pasteur)
  - 3. सिगमंड फ्रायड (Sigmund Freud)
  - 4. आइज़ैक न्यूटन (Isaac Newton)

Question ID : 4410091627285

Option 1 ID : 4410096427429

Option 2 ID : 4410096427428

Option 3 ID : 4410096427426

Option 4 ID : 4410096427427

Q.12 भारतीय समाज में बहुसंस्कृतिवाद निम्नलिखित में से किस पर बल देता है?

- Ans
- 1. सांस्कृतिक समूहों का पूर्ण पृथक्करण
  - 2. विविध सांस्कृतिक परंपराओं का परिरक्षण और अन्योन्यक्रिया
  - 3. क्षेत्रीय संस्कृतियों को राष्ट्रीय मानदंडों से बदलना
  - 4. सांस्कृतिक समरूपता और एकसमान प्रथाएं

Question ID : 4410091572237

Option 1 ID : 4410096209953

Option 2 ID : 4410096209950

Option 3 ID : 4410096209952

Option 4 ID : 4410096209951

Q.13 कोहलबर्ग के नैतिक विकास का कौन-सा चरण दंड से बचने के लिए आज्ञापालन की विशेषता है?

- Ans
- 1. परम्परागत चरण
  - 2. स्वायत्त चरण
  - 3. पक्ष-परम्परागत चरण
  - 4. पूर्व-परम्परागत चरण

Question ID : 4410091640198  
Option 1 ID : 4410096477992  
Option 2 ID : 4410096477993  
Option 3 ID : 4410096477990  
Option 4 ID : 4410096477991

Q.14 1948-49 के विश्वविद्यालय शिक्षा आयोग (राधा कृष्णन आयोग) की भारतीय उच्च शिक्षा के संबंध में प्रमुख सिफारिश क्या थी?

- Ans
- 1. सभी निजी विश्वविद्यालयों का उन्मूलन
  - 2. तीन वर्षीय डिग्री पाठ्यक्रमों की शुरुआत
  - 3. विश्वविद्यालय की स्वायत्तता में कमी
  - 4. सभी विद्यार्थियों के लिए अनिवार्य व्यावसायिक प्रशिक्षण

Question ID : 4410091624549  
Option 1 ID : 4410096416731  
Option 2 ID : 4410096416732  
Option 3 ID : 4410096416734  
Option 4 ID : 4410096416733

Q.15 एक बच्चा, सामाजिक नियमों को समझना शुरू करता है तथा नैतिक निर्णय लेते समय वयस्कों से अनुमोदन चाहता है। कौन-सी विशेषता, नैतिक विकास की इस अवस्था का सबसे सटीक वर्णन करती है?

- Ans
- 1. आत्मकेंद्रित निर्णयन
  - 2. दंड से बचने के लिए आज्ञाकारिता
  - 3. अमूर्त नैतिक तर्क
  - 4. सामाजिक अपेक्षाओं की अनुरूपता

Question ID : 4410091624527  
Option 1 ID : 4410096416646  
Option 2 ID : 4410096416644  
Option 3 ID : 4410096416645  
Option 4 ID : 4410096416643

Q.16 एक शिक्षक, महीने के पाठों की योजना बनाने के लिए पाठ्यविवरण की जाँच कर रहा है। इससे पाठ्यचर्या की क्या भूमिका प्रदर्शित होती है?

- Ans
- 1. पाठ्यचर्या, शिक्षण संबंधी विकल्पों में शिक्षकों की लचीलता को कम करती है।
  - 2. पाठ्यचर्या, मुख्यतः प्रशासनिक उद्देश्यों की पूर्ति करती है।
  - 3. पाठ्यचर्या, दिशा और व्यवस्थित विषयवस्तु प्रदान करती है।
  - 4. पाठ्यचर्या, विद्यार्थियों के अन्वेषण की सीमाओं को निर्धारित करती है।

Question ID : 4410091568295  
Option 1 ID : 4410096194466  
Option 2 ID : 4410096194467  
Option 3 ID : 4410096194465  
Option 4 ID : 4410096194464

Q.17 एक क्षेत्रीय कस्बे में, निम्न जाति का समुदाय अपनी सामाजिक स्थिति सुधारने के लिए उच्च जातियों के रीति-रिवाज, पहनावे और खान-पान की प्रथाओं को अपनाता है। इस संदर्भ में कौन-सी समाजशास्त्रीय प्रक्रिया प्रदर्शित हो रही है?

- Ans
- 1. क्षेत्रीय पहचानों को जोड़ने वाला बहुभाषी संघवाद
  - 2. सामाजिक गतिशीलता की एक प्रक्रिया के रूप में संस्कृतिकरण
  - 3. उपरिमुखी गतिशीलता के लिए वर्ग-आधारित आरक्षण
  - 4. आर्थिक गतिशीलता को बढ़ावा देने वाला वैश्वीकरण

Question ID : 4410091612813  
Option 1 ID : 4410096370100  
Option 2 ID : 4410096370098  
Option 3 ID : 4410096370101  
Option 4 ID : 4410096370099

Q.18 एक बच्चा मुख्य रूप से दूसरों को आनंदित करने और "अच्छा" दिखने के लिए नियमों का पालन करता है। यह व्यवहार किस स्तर को निरूपित करता है?

- Ans
- 1. पश्च-पारंपरिक (Post-conventional)
  - 2. पारंपरिक (Conventional)
  - 3. पूर्व-पारंपरिक (Pre-conventional)
  - 4. संवेदीप्रेरक (Sensorimotor)

Question ID : 4410091546685  
Option 1 ID : 4410096109621  
Option 2 ID : 4410096109620  
Option 3 ID : 4410096109619  
Option 4 ID : 4410096109622

Q.19 शांति शिक्षा का कौन-सा उद्देश्य, शिक्षार्थियों को रचनात्मक रूप से विवादों को हल करने और दैनिक स्थितियों में संघर्षों को बढ़ने से रोकने की क्षमता से लैस करने पर लक्षित है?

- Ans
- 1. अहिंसक संघर्ष समाधान में कौशल विकसित करना
  - 2. विश्व इतिहास से शांति संधियों का स्मरण करना
  - 3. विद्यार्थियों के बीच शैक्षणिक उत्कृष्टता को बढ़ावा देना
  - 4. पाठ्यक्रम में प्रौद्योगिकीय उन्नति पर ध्यान केंद्रित करना

Question ID : 4410091622624  
Option 1 ID : 4410096409272  
Option 2 ID : 4410096409275  
Option 3 ID : 4410096409273  
Option 4 ID : 4410096409274

Q.20 समकालीन भारत में कौन-सी चुनौती, निर्धनता और जेंडर आधारित भेदभाव दोनों से सबसे निकटता से संबंधित है?

- Ans
- 1. विकासशील देशों में तीव्र शहरीकरण
  - 2. विकसित राष्ट्रों में बढ़ा हुआ औद्योगिक उत्पादन
  - 3. शैक्षिक अवसरों तक सीमित पहुँच
  - 4. 21वीं सदी में तकनीकी उन्नति

Question ID : 4410091630678  
Option 1 ID : 4410096440858  
Option 2 ID : 4410096440861  
Option 3 ID : 4410096440859  
Option 4 ID : 4410096440860

Section : Discipline2

Q.1 कक्षा व्यवस्थापन (classroom setting) में भाषा का एक प्रमुख कार्य क्या है?

- Ans
- 1. बिना चर्चा के तथ्यों और तिथियों को याद करने के साधन के रूप में कार्य करना।
  - 2. शिक्षण और अंतःक्रिया के लिए शिक्षकों और विद्यार्थियों के बीच संचार को सुगम बनाना।
  - 3. बिना प्रश्न पूछे आदेशों के माध्यम से सख्त अनुशासन लागू करना।
  - 4. केवल साहित्यिक विश्लेषण और काव्यमय अभिव्यक्ति के माध्यम से सौंदर्यबोध प्रदान करना।

Question ID : 4410091637968  
Option 1 ID : 4410096469450  
Option 2 ID : 4410096469448  
Option 3 ID : 4410096469451  
Option 4 ID : 4410096469449

Q.2 किस पाठ्यचर्या उपागम में, विभिन्न विषयों को एक ही शिक्षण इकाई में संयुक्त किया जाता है?

- Ans  1. व्यापक क्षेत्रीय उपागम (Broadfields approach)  
 2. सामाजिक समस्या उपागम (Social problems approach)  
 3. विषय-केंद्रित उपागम (Subject-centred approach)  
 4. शिक्षार्थी-केंद्रित उपागम (Learner-centred approach)

Question ID : 4410091643104  
Option 1 ID : 4410096489291  
Option 2 ID : 4410096489293  
Option 3 ID : 4410096489292  
Option 4 ID : 4410096489294

Q.3 भाषा अधिगम में कहानियों, कविताओं और नाटकों का उपयोग करने का प्राथमिक लाभ क्या है?

- Ans  1. चर्चा या मनन न करना  
 2. आलोचनात्मक चिंतन और भाषा कौशल विकसित करना  
 3. केवल हस्तलेख का अभ्यास करना  
 4. बिना समझे पाठ को कठस्थ करना

Question ID : 4410091547800  
Option 1 ID : 4410096114037  
Option 2 ID : 4410096114035  
Option 3 ID : 4410096114038  
Option 4 ID : 4410096114036

Q.4 सामाजिक और शैक्षिक अंतर्वस्तु वाली फिल्म देखते समय, कौन-सा विश्लेषणात्मक उपागम फिल्म के आख्यान को व्यापक सामाजिक मुद्दों से सबसे प्रभावी ढंग से जोड़ता है?

- Ans  1. फिल्म के विषयों (themes) को सामाजिक गतिकी (social dynamics) और कक्षा की चर्चाओं से समीक्षात्मक रूप से संबंधित करना।  
 2. फिल्म का उसके तकनीकी उत्पादन गुणवत्ता के आधार पर मूल्यांकन करना।  
 3. केवल फिल्म की कथानक संरचना (plot structure) और चरित्र विकास पर ध्यान केंद्रित करना।  
 4. शैक्षिक उद्देश्यों के लिए महत्वपूर्ण संवादों और मुख्य दृश्यों को स्मरण करना।

Question ID : 4410091631183  
Option 1 ID : 4410096442956  
Option 2 ID : 4410096442959  
Option 3 ID : 4410096442957  
Option 4 ID : 4410096442958

Q.5 एक शिक्षक, विद्यार्थियों से कक्षा के दौरान अपने अनुभवों के बारे में प्रतिदिन लिखने को कहता है। इस दैनिकी लेखन का मुख्य उद्देश्य क्या है?

- Ans
- 1. विद्यार्थियों की लिखावट और लेखन शैली का मूल्यांकन करना
  - 2. विद्यार्थियों के भावनात्मक और व्यक्तिगत विकास को समझने में सहायता करना
  - 3. अभ्यास के लिए अतिरिक्त लिखित कार्य देना
  - 4. कक्षा में उनकी भागीदारी का लिखित रिकॉर्ड रखना

Question ID : 4410091568303  
Option 1 ID : 4410096194496  
Option 2 ID : 4410096194499  
Option 3 ID : 4410096194497  
Option 4 ID : 4410096194498

Q.6 आरंभिक साक्षरता में बच्चे भाषा की समझ को एक नियम-शासित प्रणाली के रूप में किस प्रकार प्रदर्शित कर सकते हैं?

- Ans
- 1. कविताओं की संरचना को समझे बिना उनका स्मरण करके
  - 2. सही शब्द क्रम और व्याकरण का प्रयोग करके वाक्य बना करके
  - 3. शब्दों में उनका प्रयोग किए बिना अक्षरों की पहचान करके
  - 4. भाषा के नियमों का पालन किए बिना मौखिक शब्दों को दोहरा करके

Question ID : 4410091633038  
Option 1 ID : 4410096450271  
Option 2 ID : 4410096450270  
Option 3 ID : 4410096450272  
Option 4 ID : 4410096450273

Q.7 कौन-सा उपागम किसी शिक्षक को सामाजिक और शैक्षिक विषयवस्तु वाली फिल्म देखने के बाद विद्यार्थियों में समीक्षात्मक चिंतन को सुगम बनाने की सर्वोत्तम सुविधा देता है?

- Ans
- 1. विद्यार्थियों से फिल्म को सारांशित करने के लिए कहना
  - 2. बिना संरचना के स्वतंत्र परिचर्चा की अनुमति देना
  - 3. तथ्यात्मक प्रश्नों वाली वर्कशीट निर्दिष्ट करना
  - 4. विषयों पर संरचित बहस

Question ID : 4410091608226  
Option 1 ID : 4410096351828  
Option 2 ID : 4410096351831  
Option 3 ID : 4410096351829  
Option 4 ID : 4410096351830

Q.8 किसी भाषा कक्षा में, शिक्षक जटिल व्याकरणिक संरचनाओं को प्रस्तुत करने के लिए सर्वप्रथम सरल वाक्यों का विश्लेषण करते हैं, विद्यार्थियों को उनमें निहित प्रतिरूपों को पहचानने में मार्गदर्शन करते हैं, और फिर उन्हें उन संरचनाओं का उपयोग करके नए वाक्य बनाने के लिए प्रोत्साहित करते हैं। इस अनुदेशनात्मक अनुक्रम की सर्वोत्तम व्याख्या कौन-सा शिक्षण सिद्धांत करता है?

- Ans
- 1. सरल से जटिल (Simple to Complex)
  - 2. जटिल से सरल (Complex to Simple)
  - 3. ज्ञात से अज्ञात (Known to Unknown)
  - 4. मूर्त से अमूर्त (Concrete to Abstract)

Question ID : 4410091613271  
Option 1 ID : 4410096371919  
Option 2 ID : 4410096371918  
Option 3 ID : 4410096371921  
Option 4 ID : 4410096371920

Q.9 ELT कक्षा में साहित्य का उपयोग करने का मुख्य लाभ क्या है?

- Ans
- 1. यह केवल उन्नत शिक्षार्थियों के लिए उपयुक्त है।
  - 2. यह भाषा अधिगम को केवल कार्यात्मक उपयोग तक सीमित करता है।
  - 3. यह व्याकरण और शब्दावली शिक्षण से बचता है।
  - 4. यह भाषाई इनपुट प्रदान करता है और अभिव्यक्ति को प्रोत्साहित करता है।

Question ID : 4410091576613  
Option 1 ID : 4410096227260  
Option 2 ID : 4410096227257  
Option 3 ID : 4410096227259  
Option 4 ID : 4410096227258

Q.10 निम्नलिखित में से कौन-सा अनुक्रम पाठ्यचर्या विकास के चरणों को सही रूप से निरूपित करता है?

- Ans
- 1. अनुभवों का संगठन → उद्देश्यों का निरूपण → परिणामों का मूल्यांकन → अधिगम अनुभवों का चयन
  - 2. उद्देश्यों का निरूपण → अधिगम अनुभवों का चयन → अनुभवों का संगठन → परिणामों का मूल्यांकन
  - 3. उद्देश्यों का निरूपण → अनुभवों का संगठन → अधिगम अनुभवों का चयन → परिणामों का मूल्यांकन
  - 4. अधिगम अनुभवों का चयन → परिणामों का मूल्यांकन → अनुभवों का संगठन → उद्देश्यों का निरूपण

Question ID : 4410091572123  
Option 1 ID : 4410096209506  
Option 2 ID : 4410096209507  
Option 3 ID : 4410096209505  
Option 4 ID : 4410096209504

Q.11 प्रारंभिक भाषा विकास का मूल्यांकन करते समय विभिन्न आकलन विधियों का उपयोग करना क्यों महत्वपूर्ण होता है?

- Ans
- 1. क्योंकि इससे शिक्षक प्रशिक्षण की आवश्यकता समाप्त हो जाती है
  - 2. क्योंकि यह विभिन्न परिस्थितियों में गुणों और आवश्यकताओं की पहचान करता है
  - 3. क्योंकि यह संपूर्ण आकलन प्रक्रिया को तेज करता है
  - 4. क्योंकि यह सभी परीक्षाओं में उच्च अंक सुनिश्चित करता है

Question ID : 4410091627336  
Option 1 ID : 4410096427633  
Option 2 ID : 4410096427631  
Option 3 ID : 4410096427632  
Option 4 ID : 4410096427630

Q.12 कक्षा में आयोजित एक गतिविधि में विद्यार्थियों को एक कहानी को अपने शब्दों में सुनाना होता है। इससे कौन-सा प्राथमिक भाषाई कौशल विकसित होता है?

- Ans
- 1. हस्तलेख सटीकता
  - 2. आख्यान क्षमता
  - 3. स्वनिमिक जागरूकता
  - 4. अक्षर पहचान

Question ID : 4410091633042  
Option 1 ID : 4410096450289  
Option 2 ID : 4410096450286  
Option 3 ID : 4410096450288  
Option 4 ID : 4410096450287

Q.13 कौन-सी अनुदेशनात्मक रणनीति, विद्यार्थियों को शाखाओं और चित्रों का उपयोग करके कठिन अवधारणाओं को समझने और उनका विश्लेषण करने में सहायता करती है?

- Ans
- 1. माइंड मैपिंग (Mind mapping)
  - 2. कक्षा को फ्लिप (Flip) करना
  - 3. प्रामाणिक मूल्यांकन (Authentic assessment)
  - 4. टीम वर्क (Teamwork) और सहयोग

Question ID : 4410091611773  
Option 1 ID : 4410096365933  
Option 2 ID : 4410096365931  
Option 3 ID : 4410096365934  
Option 4 ID : 4410096365932

Q.14 विद्यार्थी सामाजिक बाधाओं पर बनी एक फिल्म देखते हैं और उन्होंने जो सीखा उस पर चर्चा करते हैं। इससे उन्हें \_\_\_\_\_ सहायता मिलती है।

- Ans
- 1. दृश्य उदाहरणों के माध्यम से सामाजिक मुद्दों को समझने में
  - 2. सामान्य समय प्रबंधन कौशल विकसित करने में
  - 3. निष्क्रिय मनोरंजन गतिविधियों में शामिल होने में
  - 4. फिल्मों के संवाद और दृश्यों को याद करने में

Question ID : 4410091568316  
Option 1 ID : 4410096194549  
Option 2 ID : 4410096194551  
Option 3 ID : 4410096194548  
Option 4 ID : 4410096194550

Q.15 दैनिक गतिविधियों, जैसे चलने या खाने, पर निर्देशित ध्यान मुख्य रूप से शिक्षार्थियों को किसमें सहायता करता है?

- Ans
- 1. सटीकता प्राप्त करने में
  - 2. मानसिक रूप से सचेत रहने में
  - 3. गामक कौशलों में सुधार करने में
  - 4. कार्य की गति बढ़ाने में

Question ID : 4410091635699  
Option 1 ID : 4410096460790  
Option 2 ID : 4410096460788  
Option 3 ID : 4410096460789  
Option 4 ID : 4410096460787

Q.16 एक शिक्षक श्वास व्यायाम और विचारशील डायरी लेखन को मिलाकर विद्यार्थियों को सचेतन का परिचय देता है। विद्यार्थियों के लिए इन दोनों उपागमों को एकीकृत करने का प्राथमिक लाभ क्या है?

- Ans
- 1. केवल सभी विषयों में शैक्षणिक प्रदर्शन और परीक्षा ग्रेड में सुधार करना
  - 2. कक्षा के भीतर विद्यार्थियों की सामाजिक अन्योन्य क्रिया के स्तर को बढ़ाना
  - 3. विद्यार्थियों के बीच वर्तमान में फोकस और आत्म-समझ को बढ़ाना
  - 4. दैनिक शिक्षण गतिविधियों के दौरान कक्षा में शोर के समग्र स्तर में कमी करना

Question ID : 4410091624649  
Option 1 ID : 4410096417127  
Option 2 ID : 4410096417130  
Option 3 ID : 4410096417129  
Option 4 ID : 4410096417128

Q.17 एक शिक्षक गणित की कक्षा में एक शॉर्ट वीडियो दिखाने, उसके बाद समूह चर्चा करने और एक प्रश्नोत्तरी आयोजित करने की योजना बना रहा है। यह योजना पाठ योजना के किस महत्वपूर्ण चरण को दर्शाती है?

- Ans
- 1. पाठ की शुरुआत में गृहकार्य देना
  - 2. गतिविधियों का क्रम निर्धारण और रचनात्मक मूल्यांकन को एकीकृत करना
  - 3. विषयवस्तु को अधिकतम रूप से कवर करने के लिए परिचय को छोड़ देना
  - 4. केवल व्याख्यान के माध्यम से अवधारणाओं को समझाने पर ध्यान केंद्रित करना

Question ID : 4410091606298

Option 1 ID : 4410096344219

Option 2 ID : 4410096344216

Option 3 ID : 4410096344218

Option 4 ID : 4410096344217

Q.18 जब एक ही कौशल में कमजोर विद्यार्थियों को उसी कक्षा के तेजस्वी सहपाठियों के साथ जोड़ा जाता है, तो किस प्रकार के समूहन का उपयोग किया जाता है?

- Ans
- 1. सजातीय बौद्धिक समूहन (Homogenous intellectual grouping)
  - 2. मानिटरी प्रणाली का अनुप्रयोग (Monitorial system application)
  - 3. समान आयु वर्ग के विद्यार्थियों को उपचारात्मक निर्देश (Same-age remedial instruction)
  - 4. केंद्रित अंतर-आयु मार्गदर्शन (Focused cross-age mentorship)

Question ID : 4410091557348

Option 1 ID : 4410096151828

Option 2 ID : 4410096151830

Option 3 ID : 4410096151829

Option 4 ID : 4410096151827

Q.19 एक शिक्षक एक कुशल पाठक को एक ऐसे सहपाठी से मिलाता है जिसे पढ़ने की प्रवाहशीलता में सुधार के लिए सहायता की आवश्यकता है। यह स्थिति क्या दर्शाती है?

- Ans
- 1. समान-आयु सहपाठी अनुशिक्षण
  - 2. प्रत्यक्ष अनुदेश
  - 3. भिन्न-आयु सहपाठी अनुशिक्षण
  - 4. पारस्परिक शिक्षण

Question ID : 4410091546830

Option 1 ID : 4410096110190

Option 2 ID : 4410096110191

Option 3 ID : 4410096110189

Option 4 ID : 4410096110188

Q.20 संदर्भ में दिए गए सुझावों के अनुसार, निम्नलिखित में से कौन-सी शिक्षण विधि प्राथमिक विद्यालय के बच्चों में गणित के संप्रत्ययात्मक बोध (conceptual understanding) को सर्वोत्तम तरीके से बढ़ावा देती है?

- Ans  1. क्रियाकलाप-आधारित अधिगम (Activity-based learning)  
 2. ड्रिल और प्रैक्टिस (Drill and practice)  
 3. व्याख्यान-आधारित शिक्षण (Lecture-based teaching)  
 4. रटन स्मरण (Rote memorization)

Question ID : 4410091638199  
 Option 1 ID : 4410096470444  
 Option 2 ID : 4410096470445  
 Option 3 ID : 4410096470443  
 Option 4 ID : 4410096470442

Section : Discipline3

Q.1 जिला स्तर पर प्राथमिक शिक्षा नीतियों के कार्यान्वयन की देखरेख के लिए मुख्य रूप से कौन उत्तरदायी होता है?

- Ans  1. खंड शिक्षा अधिकारी  
 2. प्रधानाध्यापक  
 3. जिला मजिस्ट्रेट  
 4. जिला प्राथमिक शिक्षा अधिकारी

Question ID : 4410091627036  
 Option 1 ID : 4410096426452  
 Option 2 ID : 4410096426451  
 Option 3 ID : 4410096426453  
 Option 4 ID : 4410096426450

Q.2 किसी विद्यालय को प्रारंभ से डिजाइन करते समय, सबसे पहले किस पहलू को स्थापित करना सबसे आवश्यक है?

- Ans  1. सांगठनिक संरचना और प्रशासनिक रूपरेखा  
 2. सह-पाठ्यचारी और खेल कार्यक्रमों की रेंज  
 3. भौतिक अभिन्यास और कक्षा अवसंरचना योजना  
 4. मूल शैक्षिक दर्शन और दीर्घकालिक दृष्टि

Question ID : 4410091610604  
 Option 1 ID : 4410096361299  
 Option 2 ID : 4410096361302  
 Option 3 ID : 4410096361301  
 Option 4 ID : 4410096361300

Q.3 बच्चों पर टेलीविजन के नकारात्मक प्रभाव को कम करने के लिए सुझावित सबसे प्रभावी तरीका क्या है?

- Ans
- 1. विद्यालय के समय को सीमित करना
  - 2. सख्त दंड
  - 3. सहपाठियों के समूहों से बचना
  - 4. मीडिया साक्षरता

Question ID : 4410091685746  
Option 1 ID : 4410096649880  
Option 2 ID : 4410096649878  
Option 3 ID : 4410096649881  
Option 4 ID : 4410096649879

Q.4 किस कारक को अधिगम प्रक्रिया को प्रभावित करने वाला आंतरिक कारक माना जाता है?

- Ans
- 1. सहपाठियों का समूह
  - 2. शिक्षण विधि
  - 3. अभिप्रेरण
  - 4. विद्यालय का वातावरण

Question ID : 4410091638821  
Option 1 ID : 4410096472862  
Option 2 ID : 4410096472861  
Option 3 ID : 4410096472860  
Option 4 ID : 4410096472863

Q.5 निम्नलिखित में से कौन-सा, वैकल्पिक शिक्षा में 'नए सिरे से विद्यालय (school from scratch)' की अवधारणा को सटीक रूप से परिभाषित करता है?

- Ans
- 1. केवल सरकार द्वारा निर्धारित पाठ्यपुस्तकों का प्रयोग करना
  - 2. परंपराओं के बिना विद्यालय का निर्माण करना
  - 3. केवल प्रमाणित शिक्षकों को नियुक्त करना
  - 4. केवल मानकीकृत परीक्षण पर फोकस करना

Question ID : 4410091635619  
Option 1 ID : 4410096460496  
Option 2 ID : 4410096460495  
Option 3 ID : 4410096460498  
Option 4 ID : 4410096460497

Q.6 एक शिक्षक विद्यार्थियों को अकादमिक से परे गणित के महत्व को समझने के लिए प्रोत्साहित करना चाहता है। उसे किस उद्देश्य पर ध्यान केंद्रित करना होगा?

- Ans  1. प्रशंसा और अभिरुचि उद्देश्य  
 2. अनुप्रयोग उद्देश्य  
 3. कौशल उद्देश्य  
 4. ज्ञान और बोध उद्देश्य

Question ID : 4410091602718  
 Option 1 ID : 4410096330447  
 Option 2 ID : 4410096330446  
 Option 3 ID : 4410096330445  
 Option 4 ID : 4410096330444

Q.7 Identify the correct sentence that adheres to subject-verb agreement.

- Ans  1. Everyone have responsible for their own actions.  
 2. Everyone is responsible for their own actions.  
 3. Everyone are responsible for their own actions.  
 4. Everyone were responsible for their own actions.

Question ID : 4410091655245  
 Option 1 ID : 4410096535948  
 Option 2 ID : 4410096535946  
 Option 3 ID : 4410096535945  
 Option 4 ID : 4410096535947

Q.8 एक अभिभावक ने बताया कि उनका किशोर बच्चा (adolescent) स्क्रीन पर अधिक समय बिता रहा है, जिसके कारण उसकी बाहरी गतिविधियाँ कम हो रही हैं और नींद भी कम आ रही है। दिशानिर्देशों के अनुसार शिक्षक द्वारा अभिभावकों को क्या सुझाव देना चाहिए?

- Ans  1. इस स्थिति की उपेक्षा करें क्योंकि किशोर ऑनलाइन सीखना अधिक पसंद करते हैं।  
 2. अभिभावकीय नियंत्रण सक्रिय करें और सभी डिवाइसों को स्थायी रूप से हटा दें।  
 3. अन्य गतिविधियों के समायोजन हेतु स्क्रीन समय को उचित रूप से कम करें।  
 4. शैक्षणिक गतिविधियों के लिए बच्चे को अधिक स्क्रीन समय दें।

Question ID : 4410091609114  
 Option 1 ID : 4410096355372  
 Option 2 ID : 4410096355375  
 Option 3 ID : 4410096355374  
 Option 4 ID : 4410096355373

Q.9 Words whose meanings you can guess but cannot use confidently are part of:

- Ans  1. Passive vocabulary  
 2. Speaking vocabulary  
 3. Writing vocabulary  
 4. Active vocabulary

Question ID : 4410091572403  
 Option 1 ID : 4410096210585  
 Option 2 ID : 4410096210586  
 Option 3 ID : 4410096210587  
 Option 4 ID : 4410096210584

Q.10 वर्णित रचनावादी उपागम के अनुसार, एक अच्छे सुविधाप्रदाता की प्राथमिक मनोवैज्ञानिक अभिवृत्ति क्या होती है?

- Ans  1. विस्तृत व्याख्याओं के साथ व्याख्यान देना  
 2. बार-बार कौशल का निदर्शन करना  
 3. विद्यार्थियों का अपने ज्ञान के स्व-निर्माण हेतु मार्गदर्शन करना  
 4. यह सुनिश्चित करना कि विद्यार्थी तथ्यों को याद कर लें

Question ID : 4410091685765  
 Option 1 ID : 4410096649955  
 Option 2 ID : 4410096649957  
 Option 3 ID : 4410096649954  
 Option 4 ID : 4410096649956

Q.11 NEP 2020 के प्रावधानों के अनुसार, निम्नलिखित में से कौन-सा शिक्षकों के वैध पेशेवर अधिकार का सर्वश्रेष्ठ प्रतिनिधित्व करता है?

- Ans  1. कक्षाकक्ष में उपयोग के लिए पाठ्यपुस्तकों और व्यावसायिक अधिगम सामग्री के चयन में स्वायत्तता का प्रयोग करना  
 2. प्रशासनिक उत्तरदायित्व से मुक्त रहते हुए पाठ्यचर्या संबंधी निर्णयों में भाग लेना  
 3. संस्थागत मूल्यांकन ढाँचों से स्वतंत्र रूप से व्यक्तिगत विद्यार्थी मूल्यांकन मानदंड निर्धारित करना  
 4. शैक्षिक कौशल को बढ़ाने के लिए निरंतर, संरचित पेशेवर विकास और गुणवत्तापूर्ण प्रशिक्षण प्राप्त करना

Question ID : 4410091547822  
 Option 1 ID : 4410096114119  
 Option 2 ID : 4410096114122  
 Option 3 ID : 4410096114121  
 Option 4 ID : 4410096114120

Q.12 निम्नलिखित में से कौन-सा भारतीय समाज में जेंडर भूमिकाओं को आकार देने वाला एक सामान्य कारक है?

- Ans  1. पारिवारिक परंपराएँ और अपेक्षाएँ  
 2. जलवायु परिस्थितियों और मौसम  
 3. आर्थिक स्थिति और आय  
 4. मीडिया चित्रण और विज्ञापन

Question ID : 4410091678722  
Option 1 ID : 4410096623101  
Option 2 ID : 4410096623102  
Option 3 ID : 4410096623103  
Option 4 ID : 4410096623104

Q.13 एक शिक्षक, कक्षा में बच्चों के अन्वेषणार्थ विभिन्न क्रियाकलाप संबंधी क्षेत्रों का निर्माण करता है। यहाँ मुख्यतः किस प्रकार के क्रियाकलाप को सुगमित किया जा रहा है?

- Ans  1. निर्देशित क्रियाकलाप (Guided play)  
 2. निर्बाध क्रियाकलाप (Free play)  
 3. एकाकी क्रियाकलाप (Solitary play)  
 4. प्रेक्षक क्रियाकलाप (Onlooker play)

Question ID : 4410091639009  
Option 1 ID : 4410096473602  
Option 2 ID : 4410096473601  
Option 3 ID : 4410096473603  
Option 4 ID : 4410096473604

Q.14 A student says, 'May I come in, Sir?' The teacher praises it because it is:

- Ans  1. Only suitable for informal speech  
 2. Grammatically correct and appropriate  
 3. Grammatically wrong but appropriate  
 4. Always incorrect in formal settings

Question ID : 4410091568375  
Option 1 ID : 4410096194787  
Option 2 ID : 4410096194785  
Option 3 ID : 4410096194784  
Option 4 ID : 4410096194786

Q.15 प्राइमरी विद्यार्थियों के शिक्षण मापन (teaching measurement) में पहले चरण का मुख्य उद्देश्य क्या है?

- Ans
- 1. समान आकार की वस्तुओं की तुलना करके इंद्रियों को प्रशिक्षित करना
  - 2. मापन में गुणन सिखाना
  - 3. मापन इकाइयों के सूत्र सिखाना
  - 4. मानक मापन इकाइयों का परिचय देना

Question ID : 4410091576654  
Option 1 ID : 4410096227452  
Option 2 ID : 4410096227454  
Option 3 ID : 4410096227453  
Option 4 ID : 4410096227451

Q.16 प्राथमिक विद्यालयों के प्रभावी कार्यचालन को सुनिश्चित करने के लिए प्राथमिक शिक्षा निदेशक विशिष्ट रूप से किनके साथ समन्वय करता है?

- Ans
- 1. विद्यार्थी और अभिभावक
  - 2. पाठ्यपुस्तक प्रकाशक
  - 3. विद्यालय के प्राचार्य और शैक्षिक अधिकारी
  - 4. स्थानीय सरकारी संविदाकार

Question ID : 4410091621490  
Option 1 ID : 4410096404763  
Option 2 ID : 4410096404766  
Option 3 ID : 4410096404764  
Option 4 ID : 4410096404765

Q.17 जब कोई व्यक्ति क्रोध या दुश्चिंता की भावनाओं को वास्तविक स्रोत से किसी सुरक्षित व्यक्ति (safer person) में स्थानांतरित करता है, जैसे कि कार्य पर एक तनावपूर्ण दिन के बाद जीवनसाथी के साथ झगड़ा करना, तो इस रक्षा युक्ति को निम्नलिखित में से क्या कहा जाता है?

- Ans
- 1. प्रतिगमन (Regression)
  - 2. वास्तविकता का अस्वीकरण (Denial of reality)
  - 3. विस्थापन (Displacement)
  - 4. स्वैरकल्पना (Fantasy)

Question ID : 4410091579433  
Option 1 ID : 4410096239021  
Option 2 ID : 4410096239018  
Option 3 ID : 4410096239020  
Option 4 ID : 4410096239019

Q.18 Which of the following is NOT an example of active vocabulary?

- Ans
- 1. Words a student can use correctly in speaking or writing.
  - 2. Words a student can confidently include in written assignments.
  - 3. A word you understand but never use in speaking or writing
  - 4. Words a student uses regularly in daily conversation.

Question ID : 4410091638782  
Option 1 ID : 4410096472705  
Option 2 ID : 4410096472707  
Option 3 ID : 4410096472704  
Option 4 ID : 4410096472706

Q.19 निम्नलिखित में से कौन-सा, प्राथमिक स्तर पर गणित पढ़ाने का एक प्रमुख उद्देश्य है?

- Ans
- 1. अधिगम को रटने वाली गणनाओं तक सीमित करना
  - 2. बुनियादी अवधारणाओं को समझना और उन्हें दैनिक जीवन से जोड़ना
  - 3. तार्किक तर्क की उपेक्षा करना
  - 4. केवल अमूर्त गणनाओं पर जोर देना

Question ID : 4410091547847  
Option 1 ID : 4410096114222  
Option 2 ID : 4410096114219  
Option 3 ID : 4410096114221  
Option 4 ID : 4410096114220

Q.20 शैक्षणिक या व्यक्तिगत तनाव से निपटने के लिए बार-बार रक्षात्मक तंत्रों पर निर्भर रहने का मूल जोखिम इस बात में निहित है कि ये तंत्र \_\_\_\_\_ को सक्षम करते हैं।

- Ans
- 1. सामाजिक रूप से स्वीकृत संघर्ष समाधान
  - 2. सचेत बौद्धिक परिहार
  - 3. यथार्थवादी सामना करने की कार्यनीतियों
  - 4. वास्तविकता के अयथार्थवादी विरूपण

Question ID : 4410091558708  
Option 1 ID : 4410096157229  
Option 2 ID : 4410096157226  
Option 3 ID : 4410096157227  
Option 4 ID : 4410096157228

Q.1 निम्नलिखित में से कौन-सा विकल्प, पर्यावरण अध्ययन पढ़ाने के लिए कम लागत या बिना लागत वाली उपयुक्त सामग्री का एक उदाहरण है?

- Ans
- 1. इंटरैक्टिव व्हाइटबोर्ड
  - 2. डिजिटल प्रोजेक्टर
  - 3. प्रयुक्त समाचार पत्र
  - 4. रंगीन चाक

Question ID : 4410091627349  
Option 1 ID : 4410096427684  
Option 2 ID : 4410096427685  
Option 3 ID : 4410096427682  
Option 4 ID : 4410096427683

Q.2 निम्नलिखित में से कौन-सा शिक्षण और अधिगम में उपयोग किए जाने वाले ऑडियो मीडिया का एक उदाहरण है?

- Ans
- 1. शैक्षिक पोस्टर
  - 2. पॉडकास्ट
  - 3. छवियाँ
  - 4. फ्लिप चार्ट

Question ID : 4410091602522  
Option 1 ID : 4410096329665  
Option 2 ID : 4410096329662  
Option 3 ID : 4410096329663  
Option 4 ID : 4410096329664

Q.3 एक देश में तीव्र वैश्वीकरण हो रहा है, जिसके परिणामस्वरूप अधिक अंतरराष्ट्रीय शैक्षिक साझेदारी और पाठ्यचर्या सुधार हो रहे हैं। समय के साथ यह विद्यार्थियों की सांस्कृतिक पहचान को किस प्रकार प्रभावित कर सकता है?

- Ans
- 1. विद्यार्थी विदेशी सांस्कृतिक मूल्यों को पूर्ण रूप से अपना सकते हैं, और अपनी परंपराओं को पूर्ण रूप से त्याग सकते हैं।
  - 2. विद्यार्थी स्थानीय और वैश्विक मूल्यों को मिलाकर एक मिश्रित पहचान विकसित कर सकते हैं।
  - 3. विद्यार्थी और समुदाय सभी नए शैक्षिक सुधारों को अस्वीकार कर सकते हैं और केवल पारंपरिक प्रथाओं बनाए रख सकते हैं।
  - 4. स्कूल स्थानीय भाषाओं को पढ़ाना बंद कर सकते हैं और केवल अंतरराष्ट्रीय भाषाओं पर ध्यान केंद्रित कर सकते हैं।

Question ID : 4410091615067  
Option 1 ID : 4410096379066  
Option 2 ID : 4410096379065  
Option 3 ID : 4410096379068  
Option 4 ID : 4410096379067

Q.4 निम्नलिखित में से कौन-सा विकल्प, प्रारंभिक पाठ्यचर्या में सामाजिक अध्ययन के प्राथमिक फोकस का सटीक वर्णन करता है?

- Ans
- 1. प्राचीन साहित्यिक ग्रंथों और कविताओं को याद करना
  - 2. व्यक्तियों और समाज के बीच संबंधों को समझना
  - 3. केवल गणितीय परिकलन कौशल विकसित करना
  - 4. उन्नत वैज्ञानिक सिद्धांतों और नियमों को सीखना

Question ID : 4410091669640  
Option 1 ID : 4410096589446  
Option 2 ID : 4410096589445  
Option 3 ID : 4410096589447  
Option 4 ID : 4410096589444

Q.5 एक शिक्षिका अवलोकन करती है कि उसके विद्यार्थी अंग्रेजी पाठ को तो समझ लेते हैं, लेकिन अपने विचार व्यक्त करने और मौखिक अंग्रेजी को समझने में कठिनाई का अनुभव करते हैं। उसे पाठ्यचर्या के किस उद्देश्य को प्राथमिकता देनी चाहिए?

- Ans
- 1. विशेष रूप से मौन पठन सत्रों के संचालन पर फोकस करना।
  - 2. मूल पाठ विषयक समझ को सुदृढ़ करने के लिए केवल लिखित नियत कार्य प्रदान करना।
  - 3. नियमित रूप से वर्तनी और शब्दावली परीक्षणों की आवृत्ति में वृद्धि करना।
  - 4. भाषा कौशल के चारों डोमेन में प्रकार्यात्मक दक्षता को बढ़ावा देना।

Question ID : 4410091633185  
Option 1 ID : 4410096450860  
Option 2 ID : 4410096450861  
Option 3 ID : 4410096450859  
Option 4 ID : 4410096450858

Q.6 सामाजिक अध्ययन की पाठ्यपुस्तकें राष्ट्र-निर्माण में किस प्रकार योगदान देती हैं?

- Ans
- 1. सामाजिक विविधता, अधिकारों और उत्तरदायित्वों के संबंध में जागरूकता को बढ़ावा दे करके
  - 2. ऐतिहासिक समझ पर राजनीतिक विचारधारा को प्राथमिकता दे करके
  - 3. स्थापित सामाजिक संरचनाओं पर सवाल उठाने को हतोत्साहित करके
  - 4. समालोचनात्मक अनुचिंतन के बिना समान सांस्कृतिक पहचान को बढ़ावा दे करके

Question ID : 4410091603102  
Option 1 ID : 4410096331606  
Option 2 ID : 4410096331605  
Option 3 ID : 4410096331607  
Option 4 ID : 4410096331604

Q.7 एक अनुरूपित कक्षा में, एक सेवा पूर्व शिक्षक विद्यार्थियों को प्रारंभिक अनुक्रिया के बाद अपने उत्तरों को विस्तार से समझाने के लिए प्रोत्साहित करता है। निम्नलिखित में से कौन-सा सूक्ष्म शिक्षण कौशल इसको प्रदर्शित करता है?

- Ans
- 1. अधिगम समीक्षा की पूर्णता
  - 2. विषय प्रस्तुत करने के लिए आगमन
  - 3. विद्यार्थियों की अनुक्रियाओं को गहराई से समझने के लिए अनुवीक्षण
  - 4. उदाहरण दर्शाने के लिए चित्रण

Question ID : 4410091609031

Option 1 ID : 4410096355040

Option 2 ID : 4410096355042

Option 3 ID : 4410096355041

Option 4 ID : 4410096355043

Q.8 पठन सत्र के दौरान, शिक्षक विद्यार्थियों को मातृभाषा की शब्दावलियों का उपयोग करने और अपने समुदाय की परंपराओं को दर्शाने वाली कहानियाँ पढ़ने के लिए प्रोत्साहित करता है। इस उपागम में पाठ्यपुस्तक के किस कार्य को विशिष्ट रूप से दर्शाया जा रहा है?

- Ans
- 1. मानक भाषा के विशेष उपयोग को बढ़ावा देना
  - 2. एकसमान आकलन निर्देशिका प्रदान करना
  - 3. बहुभाष्यता और स्थानीय सांस्कृतिक प्रासंगिकता का समर्थन करना
  - 4. सामग्री में केवल तथ्यात्मक सटीकता सुनिश्चित करना

Question ID : 4410091618468

Option 1 ID : 4410096392746

Option 2 ID : 4410096392744

Option 3 ID : 4410096392743

Option 4 ID : 4410096392745

Q.9 प्राथमिक स्तर पर अंग्रेजी शिक्षण में ICT के उपयोग का एक महत्वपूर्ण लाभ क्या है?

- Ans
- 1. सर्जनात्मक लेखन के अवसरों को कम करना
  - 2. पारंपरिक पाठ्यपुस्तकों तक पहुंच को सीमित करना
  - 3. कक्षा में सामूहिक सहभागिता को हतोत्साहित करना
  - 4. अन्तर्क्रियात्मक दृश्य अधिगम को बढ़ावा देना

Question ID : 4410091641206

Option 1 ID : 4410096481980

Option 2 ID : 4410096481978

Option 3 ID : 4410096481979

Option 4 ID : 4410096481977

Q.10 एक पाठ योजना में समूह-कार्य, वास्तविक जीवन के उदाहरण और मुक्तोत्तर प्रश्न शामिल हैं। यह किस सिद्धांत को सर्वोत्तम रूप से दर्शाता है?

- Ans
- 1. निष्क्रिय श्रवण पर बल देना
  - 2. केवल तथ्यात्मक पुनः स्मरण पर ध्यान केंद्रित करना
  - 3. पाठ्यपुस्तक का बिना किसी व्यतिक्रम के अनुसरण करना
  - 4. विद्यार्थियों को कई शैलियों के माध्यम से शामिल करना

Question ID : 4410091646598  
Option 1 ID : 4410096502635  
Option 2 ID : 4410096502633  
Option 3 ID : 4410096502636  
Option 4 ID : 4410096502634

Q.11 विद्यालय पाठ्यचर्या में अंग्रेजी महत्वपूर्ण स्थान रखती है, क्योंकि यह \_\_\_\_\_।

- Ans
- 1. एक वैश्विक संपर्क भाषा के रूप में कार्य करती है
  - 2. मातृभाषा का उपयोग कम करती है
  - 3. सभी क्षेत्रीय भाषाओं को प्रतिस्थापित करती है
  - 4. रटकर याद करने को बढ़ावा देती है

Question ID : 4410091687718  
Option 1 ID : 4410096657660  
Option 2 ID : 4410096657659  
Option 3 ID : 4410096657661  
Option 4 ID : 4410096657658

Q.12 शिक्षणशास्त्रीय नेतृत्व मुख्य रूप से शिक्षण की गुणवत्ता को किस प्रकार प्रभावित करता है?

- Ans
- 1. केवल परीक्षा परिणामों पर फोकस करके
  - 2. शिक्षकों के सहयोग से
  - 3. प्रशासनिक कर्तव्यों को सौंपकर
  - 4. कठोर अनुशासन नीतियाँ बनाकर

Question ID : 4410091641248  
Option 1 ID : 4410096482147  
Option 2 ID : 4410096482146  
Option 3 ID : 4410096482148  
Option 4 ID : 4410096482145

Q.13 शिक्षा में पर्यावरण अध्ययन को क्यों महत्वपूर्ण माना जाता है?

- Ans
- ✓ 1. यह जागरूकता और जिम्मेदारी का निर्माण करता है।
  - ✗ 2. यह प्रकृति पर मानव प्रभाव की उपेक्षा करता है।
  - ✗ 3. यह विद्यार्थियों को खेल आयोजनों के लिए तैयार करता है।
  - ✗ 4. यह केवल ऐतिहासिक तथ्यों पर केंद्रित होता है।

Question ID : 4410091687069  
Option 1 ID : 4410096655082  
Option 2 ID : 4410096655084  
Option 3 ID : 4410096655085  
Option 4 ID : 4410096655083

Q.14 एक बहुभाषी क्षेत्र में स्थित एक सरकारी विद्यालय प्राथमिक स्तर पर अंग्रेजी की शुरुआत करता है। शिक्षक कहानियाँ, चर्चाओं और परियोजनाओं का उपयोग करते हुए पाठों को विद्यार्थियों के विद्यालय के बाहर के जीवन से जोड़ते हैं। कौन-सा सिद्धांत इस उपागम का सर्वोत्तम वर्णन करता है?

- Ans
- ✗ 1. व्याकरण के लिए केवल रटने की विधि का उपयोग करना।
  - ✗ 2. मातृभाषा का न्यूनतम उपयोग करते हुए एकभाषी वातावरण में पूरी तरह से डूब जाना।
  - ✓ 3. अंतःक्रियात्मक विधियों पर केंद्रित रचनावादी शिक्षाशास्त्र।
  - ✗ 4. केवल पाठ्यपुस्तक-आधारित अनुदेश का सख्ती से पालन करना।

Question ID : 4410091617310  
Option 1 ID : 4410096388140  
Option 2 ID : 4410096388141  
Option 3 ID : 4410096388139  
Option 4 ID : 4410096388142

Q.15 विद्यालय के प्रधानाचार्य का मिशन "समीक्षात्मक चिंतन" है, परंतु वृत्तिक विकास (PD) संबंधी गतिविधियाँ असंबद्ध हैं। अनुदेशात्मक नेतृत्व के लिए प्रधानाचार्य को क्या कदम उठाना चाहिए?

- Ans
- ✗ 1. अधिदेशित विशिष्ट दैनिक पाठ योजना
  - ✗ 2. सभी प्रशिक्षण कर्मियों के लिए निधियन में वृद्धि
  - ✗ 3. समस्त PD अनुसूचन नियंत्रण का प्रत्यायोजन
  - ✓ 4. विद्यालय के लक्ष्यों के साथ संरेखित PD संबंधी गतिविधि

Question ID : 4410091558781  
Option 1 ID : 4410096157509  
Option 2 ID : 4410096157510  
Option 3 ID : 4410096157512  
Option 4 ID : 4410096157511

Q.16 सामाजिक विज्ञान विषयों को स्वतंत्र रूप से पढ़ाना मनोवैज्ञानिक रूप से बेहतर क्यों है?

- Ans
- 1. इससे कक्षा में समय की बचत होती है
  - 2. इससे विद्यालयों को विषयों के बीच समय को अधिक समान रूप से आवंटित करने में सहायता मिलती है
  - 3. यह एक साथ बहु टॉपिकों में तथ्यों को याद रखने को प्रोत्साहित करता है
  - 4. यह शिक्षार्थियों को मानव ज्ञान और रुचि के व्यापक क्षेत्रों को समझने में सक्षम बनाता है

Question ID : 4410091608741  
Option 1 ID : 4410096353884  
Option 2 ID : 4410096353887  
Option 3 ID : 4410096353886  
Option 4 ID : 4410096353885

Q.17 NEP 2020-EVS विश्लेषण पाठ्य प्रोक्ति (textual discourse) से परे किस शैक्षिक अभ्यास के माध्यम से अंतर्विषयी महत्व पर बल देते हैं?

- Ans
- 1. वार्षिक रूप से बाल-पर्यावरण अंतःक्रिया मानकों को पार करते हुए रटने को प्राथमिकता देते हुए पाठ्यपुस्तक-बद्ध विषयगत अलगाव।
  - 2. अनुभवात्मक वास्तविक जीवन संबंध, बहुविषयक विषय-आधारित रचनावाद को समग्र रूप से एकीकृत करते हुए अंतःप्रज्ञात्मक ज्ञान का निर्माण करते हैं।
  - 3. रचनावादी शैक्षिक पद्धति की बोध क्षमताओं से परे तथ्यात्मक स्मरण पर बल देते हुए रटकर स्मरण (rote memorization) करने का अभ्यास।
  - 4. राष्ट्रीय पाठ्यक्रम मानकीकरण प्रोटोकॉल के अनुरूप प्रदूषण मॉड्यूल पर केंद्रित विषयगत सामग्री पृथक्करण त्रैमासिक आधार पर तैयार किए जाते हैं।

Question ID : 4410091564021  
Option 1 ID : 4410096177683  
Option 2 ID : 4410096177682  
Option 3 ID : 4410096177681  
Option 4 ID : 4410096177684

Q.18 निम्नलिखित में से कौन-सा विकल्प प्राथमिक शिक्षा निदेशक की एक प्रमुख जिम्मेदारी का सर्वोत्तम वर्णन करता है?

- Ans
- 1. पाठ्यचर्या या शिक्षक विकास में भागीदारी के बिना विद्यालय की अवसंरचना का प्रबंधन करना
  - 2. प्राथमिक शिक्षा नीतियों और कार्यक्रमों के कार्यान्वयन का पर्यवेक्षण और अनुवीक्षण करना
  - 3. जिले के सभी प्राथमिक विद्यालयों में विद्यार्थियों को सीधे कक्षाओं में पढ़ाना
  - 4. प्राथमिक शिक्षा प्रणाली में प्रत्येक शिक्षक के लिए विस्तृत पाठ योजनाएं तैयार करना

Question ID : 4410091547396  
Option 1 ID : 4410096112450  
Option 2 ID : 4410096112447  
Option 3 ID : 4410096112448  
Option 4 ID : 4410096112449

Q.19 लेखन आकलन में सामान्यतः किस घटक का मूल्यांकन किया जाता है?

- Ans  1. विचार निर्माण  
 2. पठन गति  
 3. उच्चारण  
 4. श्रवण बोधन

Question ID : 4410091631517  
 Option 1 ID : 4410096444284  
 Option 2 ID : 4410096444287  
 Option 3 ID : 4410096444285  
 Option 4 ID : 4410096444286

Q.20 किस प्रकार का प्रश्न, विद्यार्थियों को अपने विचारों को विस्तार से व्यक्त करने की सुविधा प्रदान करता है?

- Ans  1. बहुविकल्पीय प्रश्न  
 2. सुमेलन प्रश्न  
 3. सत्य/असत्य प्रश्न  
 4. मुक्तोत्तर प्रश्न

Question ID : 4410091636483  
 Option 1 ID : 4410096463826  
 Option 2 ID : 4410096463828  
 Option 3 ID : 4410096463827  
 Option 4 ID : 4410096463825

Section : Discipline5

Q.1 ग्रामीण क्षेत्र में स्थित एक सरकारी उच्च प्राथमिक विद्यालय में विज्ञान प्रयोगशाला नहीं है। प्रधानाध्यापक चाहते हैं कि विद्यार्थी एनसीईआरटी की पाठ्यपुस्तकों के अनुरूप व्यावहारिक प्रयोग करें। एनसीएफ 2005 की अनुशंसाओं के अनुसार, इस तत्काल आवश्यकता को पूरा करने के लिए कौन-सा संसाधन सबसे उपयुक्त है?

- Ans  1. उन्नत विज्ञान पत्रिकाओं के साथ संदर्भ पुस्तकालय  
 2. विज्ञान किट जिसमें उपकरण, रसायन और मैनुअल होता है  
 3. वैज्ञानिक आरेखों के साथ मुद्रित दीवार चार्ट  
 4. विज्ञान वृत्तचित्रों के लिए दृश्य-श्रव्य उपकरण

Question ID : 4410091619154  
 Option 1 ID : 4410096395485  
 Option 2 ID : 4410096395484  
 Option 3 ID : 4410096395487  
 Option 4 ID : 4410096395486

Q.2 विद्यालय के परिवेश का कौन-सा पहलू, आधिकारिक रूप से स्वीकृत शैक्षणिक पाठ्यक्रम के बाहर जेंडर-संबंधी मूल्यों को प्रसारित करता है?

- Ans
- 1. नियोजित गतिविधियां (Planned activities)
  - 2. प्रच्छन्न पाठ्यचर्या (Hidden curriculum)
  - 3. औपचारिक पाठ्यचर्या (Formal curriculum)
  - 4. शैक्षणिक कार्यक्रम (Academic programs)

Question ID : 4410091551634  
Option 1 ID : 4410096129173  
Option 2 ID : 4410096129172  
Option 3 ID : 4410096129171  
Option 4 ID : 4410096129174

Q.3 बहुभाषी शिक्षार्थियों के लिए अनुदेशनात्मक सामग्री तैयार करते समय, कक्षा में विविध भाषाई पृष्ठभूमि को सर्वोत्तम रूप से संदर्भित करने वाली शिक्षण सहायक सामग्री कार्यनीति कौन-सी है?

- Ans
- 1. बहुभाषी शब्दावली और सांस्कृतिक रूप से प्रासंगिक पाठ को शामिल करना
  - 2. एकभाषी शब्दकोशों और व्याकरण हस्तपुस्तिकाओं का उपयोग करना
  - 3. नियमित व्याकरण अभ्यास और अभ्यास सत्र
  - 4. उच्चारण अभ्यास के लिए मानकीकृत ऑडियो टेप का उपयोग करना

Question ID : 4410091626501  
Option 1 ID : 4410096424376  
Option 2 ID : 4410096424377  
Option 3 ID : 4410096424379  
Option 4 ID : 4410096424378

Q.4 यदि कोई गणित क्लब (math club) पुनरावर्ती संख्या (palindromic number) बनाने पर एक सत्र आयोजित करता है, तो कौन-सा शैक्षिक प्रतिफल प्राप्त होने की सबसे अधिक संभावना है?

- Ans
- 1. गृहकार्य भार, अध्ययन की जिम्मेदारी और शैक्षणिक दबाव को बढ़ाना
  - 2. गणित को आनंददायक बनाना, दुश्चिंता को कम करना और सकारात्मक संलग्नता का निर्माण करना
  - 3. संघर्षरत विद्यार्थियों को पृथक करना, अंतराल को बढ़ाना और समावेशन को कम करना
  - 4. परीक्षा-आधारित दबाव, तनाव और निष्पादन संबंधी दुश्चिंता को सुदृढ़ करना

Question ID : 4410091633527  
Option 1 ID : 4410096452204  
Option 2 ID : 4410096452202  
Option 3 ID : 4410096452205  
Option 4 ID : 4410096452203

Q.5 रचनावादी गणित शिक्षण, शिक्षार्थियों को \_\_\_\_\_ के लिए प्रोत्साहित करता है।

- Ans
- 1. चर्चा और सहभाग से बचने
  - 2. केवल हल किए गए उदाहरणों पर ही निर्भर रहने
  - 3. बोध से पहले कार्यविधि स्मरण करने
  - 4. नए विचारों को पूर्व ज्ञान से संबद्धित करने

Question ID : 4410091588128  
Option 1 ID : 4410096273267  
Option 2 ID : 4410096273268  
Option 3 ID : 4410096273265  
Option 4 ID : 4410096273266

Q.6 निम्नलिखित में से कौन-सा, ब्लूम के शैक्षिक उद्देश्यों के तीन डोमेन में से एक नहीं है?

- Ans
- 1. सौंदर्यपरक
  - 2. संज्ञानात्मक
  - 3. मनोगामक
  - 4. भावात्मक

Question ID : 4410091616496  
Option 1 ID : 4410096384905  
Option 2 ID : 4410096384902  
Option 3 ID : 4410096384904  
Option 4 ID : 4410096384903

Q.7 भारत में HIV/AIDS से पीड़ित बच्चों को मुख्यधारा के विद्यालयों में पढ़ने से रोकने वाली नीति मुख्यतः समावेशी शिक्षा के किस सिद्धांत का उल्लंघन करती है?

- Ans
- 1. सभी शिक्षार्थियों के लिए बराबर भागीदारी का अधिकार
  - 2. संवेदनशीलता और जागरूकता के लिए शिक्षक प्रशिक्षण
  - 3. विविध आवश्यकताओं के लिए पाठ्यक्रम का अनुकूलन
  - 4. उपेक्षित समूहों के लिए नम्य आकलन पद्धति

Question ID : 4410091626540  
Option 1 ID : 4410096424532  
Option 2 ID : 4410096424534  
Option 3 ID : 4410096424533  
Option 4 ID : 4410096424535

Q.8 जब कोई विद्यालय लड़कों और लड़कियों दोनों को विज्ञान, खेल और नेतृत्व संबंधी गतिविधियों में समान रूप से भाग लेने के लिए प्रोत्साहित करता है, तो वह निम्नलिखित में से किस विकल्प को बढ़ावा देता है?

- Ans
- 1. जेंडर पूर्वाग्रह (Gender bias)
  - 2. जेंडर भेदभाव (Gender discrimination)
  - 3. जेंडर रूढ़िवादिता (Gender stereotyping)
  - 4. जेंडर समानता (Gender equality)

Question ID : 4410091693248

Option 1 ID : 4410096679127

Option 2 ID : 4410096679130

Option 3 ID : 4410096679128

Option 4 ID : 4410096679129

Q.9 किस तर्क प्रक्रिया में विशिष्ट अवलोकनों के आधार पर एक सामान्य निष्कर्ष निकालना शामिल है?

- Ans
- 1. सादृश्यमूलक तर्क (Analogical reasoning)
  - 2. आगमनात्मक तर्क (Inductive reasoning)
  - 3. परिकल्पित तर्क (Hypothetical reasoning)
  - 4. निगमनात्मक तर्क (Deductive reasoning)

Question ID : 4410091624194

Option 1 ID : 4410096415346

Option 2 ID : 4410096415344

Option 3 ID : 4410096415345

Option 4 ID : 4410096415343

Q.10 कौन-सी विशेषता मूल्यांकन में संरचित साक्षात्कार को अर्ध-संरचित साक्षात्कार से अलग करती है?

- Ans
- 1. संरचित साक्षात्कार में तात्कालिकता की अनुमति होती है, जबकि अर्ध-संरचित साक्षात्कार में नहीं होती है।
  - 2. संरचित साक्षात्कार अनौपचारिक होता है, जबकि अर्ध-संरचित साक्षात्कार में सख्त प्रक्रियाओं का अनुसरण किया जाता है।
  - 3. संरचित साक्षात्कारों में प्रश्न निश्चित होते हैं, जबकि अर्ध-संरचित साक्षात्कारों में प्रश्नों और उनके क्रम में लचीलापन होता है।
  - 4. संरचित साक्षात्कार के लिए किसी नियोजन की आवश्यकता नहीं होती है, जबकि अर्ध-संरचित साक्षात्कार पूर्व-नियोजित होता है।

Question ID : 4410091662421

Option 1 ID : 4410096562997

Option 2 ID : 4410096562996

Option 3 ID : 4410096562995

Option 4 ID : 4410096562998

Q.11 विशिष्ट अधिगम कठिनाइयों वाले विद्यार्थियों की कक्षा में भागीदारी का मूल्यांकन करते समय कौन-सी पद्धति, न्याय संगत मूल्यांकन सुनिश्चित करने का सर्वोत्तम तरीका है?

- Ans
- 1. प्रत्येक विद्यार्थी के लिए समान मूल्यांकन मानदंड का उपयोग करना
  - 2. केवल लिखित असाइनमेंट पर फोकस करना
  - 3. केवल सहकर्मी मूल्यांकन स्कोर पर निर्भर रहना
  - 4. व्यक्तिमूलक प्रदर्शन मानदंडों का प्रयोग करना

Question ID : 4410091662983  
Option 1 ID : 4410096565226  
Option 2 ID : 4410096565227  
Option 3 ID : 4410096565228  
Option 4 ID : 4410096565225

Q.12 पाठ्यपुस्तकों में जेंडर संबंधी रूढ़िवादिता का दीर्घकालिक प्रभाव क्या है?

- Ans
- 1. यह जेंडर प्रतिनिधित्व में समानता को संवर्धित करता है।
  - 2. यह विद्यार्थियों की शैक्षणिक उपलब्धियों को अभिवर्धित करता है।
  - 3. यह शिक्षा से पारंपरिक रूढ़ियों को समाप्त करता है।
  - 4. यह विद्यार्थियों की स्व-प्रत्यक्षण और करियर विकल्पों को प्रभावित करता है।

Question ID : 4410091639982  
Option 1 ID : 4410096477132  
Option 2 ID : 4410096477131  
Option 3 ID : 4410096477133  
Option 4 ID : 4410096477130

Q.13 एक EVS शिक्षिका, जल संरक्षण पर आधारित एक पाठ की योजना बना रही है तथा विशेष आवश्यकता वाले बालकों और प्रवासी शिक्षार्थियों सहित सभी विद्यार्थियों के लिए समावेशन सुनिश्चित करना चाहती है। शिक्षण कार्यनीतियों का कौन-सा समूह सार्वभौमिक अधिगम डिजाइन (UDL) सिद्धांतों के साथ सर्वोत्तम रूप से मेल खाता है?

- Ans
- 1. विद्यार्थियों से जल संरक्षण तथ्यों को स्मरण करने के लिए कहना
  - 2. पाठ्यपुस्तक विषय-वस्तु के आधार पर लिखित अभ्यास सौंपना
  - 3. पाठ को केवल व्याख्यान के माध्यम से, दृश्य साधनों के साथ पढ़ाया जाना
  - 4. पाठ के लिए स्पर्श मॉडल और बहुभाषी लेबल का उपयोग करना

Question ID : 4410091609444  
Option 1 ID : 4410096356695  
Option 2 ID : 4410096356694  
Option 3 ID : 4410096356692  
Option 4 ID : 4410096356693

Q.14 किन दो भाषा कौशलों को ग्रहणात्मक कौशल के रूप में वर्गीकृत किया गया है?

- Ans
- 1. श्रवण और लेखन
  - 2. वाचन और पठन
  - 3. वाचन और लेखन
  - 4. श्रवण और पठन

Question ID : 4410091633980  
Option 1 ID : 4410096454017  
Option 2 ID : 4410096454016  
Option 3 ID : 4410096454015  
Option 4 ID : 4410096454014

Q.15 कौन-सा क्रियाकलाप मनोविनोदात्मक गणित को सर्वोत्तम रूप से दर्शाता है?

- Ans
- 1. पहलियों, प्रहेलिकाओं (riddles), खेलों और गणितीय ब्रेन टीजर्स (brain teasers) को हल करना
  - 2. पाठ्यपुस्तकों से पुनरावृत्त संख्यात्मक गणनाओं का अभ्यास करना
  - 3. गणितीय सूत्रों को संकल्पनात्मक बोध के बिना याद करना
  - 4. परीक्षा निष्पादन पर केंद्रित समयबद्ध वर्कशीट को पूरा करना

Question ID : 4410091603382  
Option 1 ID : 4410096332724  
Option 2 ID : 4410096332725  
Option 3 ID : 4410096332726  
Option 4 ID : 4410096332727

Q.16 संयुक्त राष्ट्र के सतत विकास लक्ष्यों के लक्ष्य 5 का मुख्य उद्देश्य क्या है?

- Ans
- 1. सभी के लिए प्रौद्योगिकी की पहुंच में सुधार करना।
  - 2. सभी के लिए गरीबी उन्मूलन करना।
  - 3. लैंगिक समानता प्राप्त करना।
  - 4. पर्यावरण की रक्षा करना।

Question ID : 4410091603527  
Option 1 ID : 4410096333307  
Option 2 ID : 4410096333304  
Option 3 ID : 4410096333305  
Option 4 ID : 4410096333306

Q.17 एक शिक्षक को संदेह है कि एक विद्यार्थी को अधिगम अशक्तता हो सकती है। समावेशी शिक्षा सिद्धांतों के अनुरूप पहचान और आकलन के लिए व्यापक उपागम का सर्वोत्तम उदाहरण निम्नलिखित में से कौन-सा है?

- Ans
- 1. विद्यार्थी को तत्काल मनोवैज्ञानिक परीक्षण के लिए भेजना
  - 2. केवल मानकीकृत परीक्षण परिणामों के आधार पर निर्णय लेना
  - 3. बिना किसी और साक्ष्य के केवल शिक्षक की अंतःप्रज्ञा पर भरोसा करना
  - 4. कक्षा के आंकड़ों, माता-पिता और विशेषज्ञों का उपयोग करना

Question ID : 4410091619010

Option 1 ID : 4410096394912

Option 2 ID : 4410096394914

Option 3 ID : 4410096394915

Option 4 ID : 4410096394913

Q.18 NCF-2005 के अनुसार माध्यमिक स्तर तक विज्ञान पाठ्यचर्या का मुख्य केंद्र-बिंदु क्या है?

- Ans
- 1. वैज्ञानिक साक्षरता विकसित करना और व्यावहारिक ज्ञान एवं कौशल प्राप्त करना
  - 2. बिना अनुप्रयोग के वैज्ञानिक तथ्यों और शब्दावलीयों को याद करना
  - 3. केवल पाठ्यपुस्तकों और व्याख्यानों के माध्यम से ही विज्ञान का अधिगम करना
  - 4. सभी स्तरों पर पर्यावरण अध्ययन पर विशेष फोकस करना

Question ID : 4410091581931

Option 1 ID : 4410096248973

Option 2 ID : 4410096248976

Option 3 ID : 4410096248974

Option 4 ID : 4410096248975

Q.19 कक्षा में विज्ञान किट का उपयोग करने का एक प्रमुख कारण क्या होता है?

- Ans
- 1. इसका उपयोग केवल वैज्ञानिक तथ्यों को याद करने के लिए किया जाता है।
  - 2. यह केवल सैद्धांतिक ज्ञान और अवधारणाओं पर केंद्रित होता है।
  - 3. यह मुख्यतः कक्षा में वैज्ञानिक मॉडल प्रदर्शित करने के लिए होता है।
  - 4. यह विद्यार्थियों को व्यावहारिक प्रयोगों के माध्यम से सीखने में मदद करता है।

Question ID : 4410091683268

Option 1 ID : 4410096640065

Option 2 ID : 4410096640063

Option 3 ID : 4410096640064

Option 4 ID : 4410096640062

Q.20 शिक्षा में गणित को महत्वपूर्ण क्यों माना जाता है, इसका एक प्रमुख कारण क्या है?

- Ans
- 1. यह उन्नत अधिगम के लिए मूलभूत कौशल का निर्माण करती है।
  - 2. यह वास्तविक जीवन की मात्रात्मक समस्याओं को हल करने में सहायता करती है।
  - 3. यह तार्किक और विश्लेषणात्मक सोच विकसित करती है।
  - 4. यह संख्यात्मक गणनाओं की सटीकता में सुधार करती है।

Question ID : 4410091616527

Option 1 ID : 4410096385024

Option 2 ID : 4410096385023

Option 3 ID : 4410096385022

Option 4 ID : 4410096385025

