



GOVT. OF NCT OF DELHI
Delhi Subordinate Services Selection Board
FC-18, Institutional Area, Karkardooma, Delhi – 110092.
www.dsssb.delhigovt.nic.in

Participant ID	[REDACTED]
Participant Name	[REDACTED]
Test Center Name	Aadarsh Pariksha Kendra CENTER B - Gate No 2 - Noida Sector 64
Test Date	31/03/2026
Test Time	1:00 PM - 3:00 PM
Subject	Assistant Teacher Primary

Section : General Intelligence and Reasoning Ability

Q.1 दी गई श्रृंखला में प्रश्न-चिह्न (?) के स्थान पर क्या आना चाहिए?
13, 28, 43, 58, 73, ?

- Ans
- 1. 88
 - 2. 86
 - 3. 92
 - 4. 90

Question ID : 441009216192
Option 1 ID : 441009848810
Option 2 ID : 441009848807
Option 3 ID : 441009848808
Option 4 ID : 441009848809

Q.2 अंग्रेजी वर्णानुक्रम के आधार पर दी गई श्रृंखला में ? के स्थान पर क्या आना चाहिए?

UWBD CEJL KMRT SUZB ?

- Ans
- 1. ACJK
 - 2. ACDE
 - 3. AJIO
 - 4. ACHJ

Question ID : 4410091519031
Option 1 ID : 4410095999375
Option 2 ID : 4410095999376
Option 3 ID : 4410095999377
Option 4 ID : 4410095999374

Adda247

Test Prime

ALL EXAMS, ONE SUBSCRIPTION



1,00,000+
Mock Tests



**Personalised
Report Card**



**Unlimited
Re-Attempt**



600+
Exam Covered



25,000+ Previous
Year Papers



500%
Refund



ATTEMPT FREE MOCK NOW

Q.3 E, F, G, H, K, L and N are sitting around a circular table facing the centre. E sits to the immediate left of H. F sits to the immediate left of G. G sits second to the left of K. L sits third to the left of H. How many people sit between N and K, when counted from the right of N?

- Ans
- 1. Four
 - 2. One
 - 3. Three
 - 4. Two

Question ID : 441009216751

Option 1 ID : 441009851046

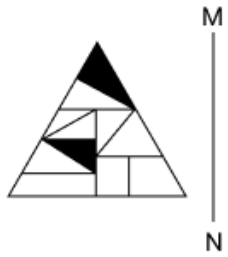
Option 2 ID : 441009851043

Option 3 ID : 441009851045

Option 4 ID : 441009851044



Q.4 जब दर्पण को चित्रानुसार MN पर रखा जाता है, तो दी गई आकृति के सही दर्पण प्रतिबिंब का चयन कीजिए।

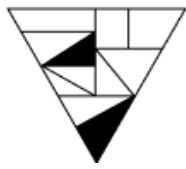


Ans

✓ 1.



✗ 2.



✗ 3.



✗ 4.



Question ID : 441009864842
 Option 1 ID : 4410093412468
 Option 2 ID : 4410093412470
 Option 3 ID : 4410093412469
 Option 4 ID : 4410093412471

Q.5 यदि '+' और '-' को परस्पर बदल दिया जाए तथा 'x' और '=' को परस्पर बदल दिया जाए तो निम्नलिखित समीकरण में '?' के स्थान पर क्या आएगा?
 $74 - 15 \div 18 + 336 \times 12 = ?$

- Ans 1. 316
 2. 314
 3. 312
 4. 310

Question ID : 4410091528078
 Option 1 ID : 4410096035508
 Option 2 ID : 4410096035507
 Option 3 ID : 4410096035506
 Option 4 ID : 4410096035505

Q.6 अंग्रेजी वर्णमाला क्रम के आधार पर, एक निश्चित तरीके से FHGE का संबंध HJIG से है। इसी प्रकार, UWVT का संबंध WYXV से है। समान तर्क का अनुसरण करते हुए, IKJH का संबंध निम्नलिखित में से किससे है?

- Ans 1. KMLJ
 2. KNKR
 3. KMKJ
 4. KLKJ

Question ID : 441009779049
 Option 1 ID : 4410093070199
 Option 2 ID : 4410093070200
 Option 3 ID : 4410093070202
 Option 4 ID : 4410093070201

Q.7 निम्नलिखित अक्षर श्रृंखला का संदर्भ लीजिए और प्रश्न का उत्तर दीजिए।
 (बाएँ) G M E M G V Z Z B V R G D F L C R S K (दाएँ)
 ऐसे कितने व्यंजन हैं जिनमें से प्रत्येक के ठीक पहले एक व्यंजन और ठीक बाद में एक स्वर है?

- Ans 1. 3
 2. 1
 3. 4
 4. 2

Question ID : 441009779767
 Option 1 ID : 4410093073073
 Option 2 ID : 4410093073071
 Option 3 ID : 4410093073074
 Option 4 ID : 4410093073072

Q.8 शब्द PIROQUE के प्रत्येक अक्षर को अंग्रेजी वर्णमाला क्रम में उसके ठीक बाद वाले अक्षर से बदल दिया जाता है और फिर इस प्रकार बने सभी अक्षरों को वर्णमाला क्रम में व्यवस्थित किया जाता है। इस प्रकार बने अक्षरों के नए समूह में दाईं ओर से चौथा अक्षर निम्नलिखित में से कौन-सा होगा?

- Ans
- 1. Q
 - 2. P
 - 3. R
 - 4. S

Question ID : 441009788061
Option 1 ID : 4410093106244
Option 2 ID : 4410093106243
Option 3 ID : 4410093106245
Option 4 ID : 4410093106246

Q.9 किसी निश्चित कूट भाषा में, 'FIST' को '9816' और 'SOFT' को '0968' के रूप में कूटबद्ध किया जाता है। दी गई कूट भाषा में 'O' का कूट क्या होगा?

- Ans
- 1. 6
 - 2. 1
 - 3. 0
 - 4. 8

Question ID : 4410091518951
Option 1 ID : 4410095999061
Option 2 ID : 4410095999059
Option 3 ID : 4410095999058
Option 4 ID : 4410095999060

Q.10 शब्द CYLINDER में प्रत्येक स्वर को अंग्रेजी वर्णमाला क्रम में उसके ठीक बाद आने वाले अक्षर से बदल दिया जाता है और प्रत्येक व्यंजन को अंग्रेजी वर्णमाला क्रम में उसके ठीक पहले आने वाले अक्षर से बदल दिया जाता है। इस प्रकार बने अक्षरों के नए समूह में कितने अक्षर ठीक दो बार आएंगे?

- Ans
- 1. एक
 - 2. दो
 - 3. तीन
 - 4. एक भी नहीं

Question ID : 441009216466
Option 1 ID : 441009849904
Option 2 ID : 441009849905
Option 3 ID : 441009849906
Option 4 ID : 441009849903

Q.11 Q, U, I, L, T और S एक ही इमारत की छह अलग-अलग मंजिलों पर रहते हैं। इमारत की सबसे निचली मंजिल का क्रमांक 1 है, उसके ऊपर वाली मंजिल का क्रमांक 2 है, और इसी तरह सबसे ऊपरी मंजिल का क्रमांक 6 है। U और T के बीच केवल तीन लोग रहते हैं, जहाँ U, T के नीचे रहता है। Q एक विषम क्रमांक वाली मंजिल पर और U के ठीक ऊपर रहता है। S, L के नीचे वाली मंजिलों में से एक पर और I के ऊपर वाली मंजिलों में से एक पर रहता है। क्रमांक 4 वाली मंजिल पर कौन रहता है?

- Ans
- 1. L
 - 2. I
 - 3. S
 - 4. Q

Question ID : 4410091518911
Option 1 ID : 4410095998900
Option 2 ID : 4410095998899
Option 3 ID : 4410095998901
Option 4 ID : 4410095998898

Q.12 यह प्रश्न नीचे दी गई तीन अंकों वाली पाँच संख्याओं पर आधारित है।
(बाएँ) 287 146 789 726 268 (दाएँ)

यदि सभी संख्याओं को आरोही क्रम में व्यवस्थित किया जाए, तो कितनी संख्याओं का स्थान अपरिवर्तित रहेगा?

- Ans
- 1. दो
 - 2. एक
 - 3. तीन
 - 4. चार

Question ID : 441009794344
Option 1 ID : 4410093131376
Option 2 ID : 4410093131375
Option 3 ID : 4410093131377
Option 4 ID : 4410093131378

Q.13 नीचे संख्याओं के दो समुच्चय दिए गए हैं। संख्याओं के प्रत्येक समुच्चय में, पहली संख्या पर निश्चित गणितीय संक्रियाएं करके दूसरी संख्या प्राप्त की जाती है। इसी प्रकार, दूसरी संख्या पर निश्चित गणितीय संक्रियाएं करके तीसरी संख्या प्राप्त की जाती है, और इसी प्रकार आगे की भी संक्रियाएं प्राप्त की जाती हैं। दिए गए विकल्पों में से कौन-सा विकल्प, उन्हीं संक्रियाओं का अनुसरण करता है, जो प्रश्न में दिए गए समुच्चयों में अनुसरण की गई है?

(नोट: संख्याओं को उनके घटक अंकों में तोड़े बिना, पूर्ण संख्याओं पर संक्रियाएं की जानी चाहिए। उदाहरण के लिए 13 लीजिए, 13 पर संक्रियाएं, जैसे कि 13 में जोड़ना/घटाना/गुणा करना आदि, की जा सकती है। 13 को 1 और 3 में तोड़ने तथा फिर 1 और 3 पर गणितीय संक्रियाएं करने की अनुमति नहीं है।)

42 - 126 - 130 - 118
45 - 135 - 139 - 127

Ans 1. 15 - 32 - 36 - 26

2. 39 - 117 - 121 - 109

3. 1 - 6 - 10 - 2

4. 18 - 56 - 62 - 50

Question ID : 441009528661

Option 1 ID : 4410092070050

Option 2 ID : 4410092070048

Option 3 ID : 4410092070049

Option 4 ID : 4410092070051

Q.14 अंग्रेजी वर्णमाला क्रम के आधार पर, निम्नलिखित चार अक्षर-समूहों में से तीन एक निश्चित तरीके से एकसमान हैं और इस प्रकार वे एक ग्रुप बनाते हैं। कौन-सा अक्षर-समूह उस ग्रुप से संबंधित नहीं है? (नोट: असंगत अक्षर-समूह, उसमें व्यंजनों/स्वरों की संख्या या उनकी स्थिति पर आधारित नहीं है।)

Ans 1. HMI

2. KPL

3. RWQ

4. EJF

Question ID : 441009782233

Option 1 ID : 4410093082935

Option 2 ID : 4410093082937

Option 3 ID : 4410093082938

Option 4 ID : 4410093082936

Q.15 उस विकल्प आकृति का चयन कीजिए जिसमें दी गई आकृति उसके भाग के रूप में अंतर्निहित है।
(घुमाने की अनुमति नहीं है)



Ans

✗ 1.



✗ 2.



✗ 3.



✓ 4.



Question ID : 4410091614482

Option 1 ID : 4410096376746

Option 2 ID : 4410096376748

Option 3 ID : 4410096376745

Option 4 ID : 4410096376747

Q.16 H, U, S, B, A, N और D में से प्रत्येक की परीक्षा सोमवार से शुरू होकर रविवार को समाप्त होने वाले एक ही सप्ताह के अलग-अलग दिन है। N से पहले केवल दो व्यक्तियों की परीक्षा है। H के बाद केवल एक व्यक्ति की परीक्षा है। N और U के बीच केवल तीन व्यक्तियों की परीक्षा है। A और D के बीच केवल एक व्यक्ति की परीक्षा है। B की परीक्षा A से ठीक पहले है। S और A के बीच कितने व्यक्तियों की परीक्षा है?

Ans

✗ 1. एक

✓ 2. दो

✗ 3. चार

✗ 4. तीन

Question ID : 4410091518852

Option 1 ID : 4410095998686

Option 2 ID : 4410095998687

Option 3 ID : 4410095998689

Option 4 ID : 4410095998688

Q.17 यदि + का अर्थ - है, - का अर्थ \times है, \times का अर्थ \div है, \div का अर्थ + है, तो निम्नलिखित समीकरण में प्रश्न-चिह्न (?) के स्थान पर क्या आएगा?

$$208 + 14 - 2 \div 12 \times 4 = ?$$

Ans 1. 183

2. 186

3. 187

4. 185

Question ID : 441009553719

Option 1 ID : 4410092170190

Option 2 ID : 4410092170192

Option 3 ID : 4410092170193

Option 4 ID : 4410092170191

Q.18 अंग्रेजी वर्णमाला क्रम पर आधारित, निम्नलिखित चार अक्षर-समूहों में से तीन एक निश्चित तरीके से एकसमान हैं और इस प्रकार एक ग्रुप बनाते हैं। कौन-सा अक्षर-समूह उस ग्रुप से संबंधित नहीं है? (नोट: असंगत अक्षर-समूह, व्यंजनों/स्वरों की संख्या या उनकी स्थिति पर आधारित नहीं है।)

Ans 1. FKN

2. OSW

3. NRV

4. SWA

Question ID : 441009764844

Option 1 ID : 4410093013369

Option 2 ID : 4410093013372

Option 3 ID : 4410093013370

Option 4 ID : 4410093013371

Q.19 वरुण अपनी कक्षा में नीचे से 17वें और ऊपर से 13वें स्थान पर है। उसकी कक्षा में कुल कितने विद्यार्थी हैं?

Ans 1. 30

2. 29

3. 28

4. 27

Question ID : 4410091614404

Option 1 ID : 4410096376436

Option 2 ID : 4410096376435

Option 3 ID : 4410096376434

Option 4 ID : 4410096376433

Q.20 G, L की माता है। L, U की बहन है। T, N का पिता है। N, U का पति है। T का G से क्या संबंध है?

- Ans
- 1. पति का पिता
 - 2. पुत्री के पति का पिता
 - 3. पुत्री के पति का भाई
 - 4. पुत्री का पति

Question ID : 4410091619005
Option 1 ID : 4410096394895
Option 2 ID : 4410096394892
Option 3 ID : 4410096394893
Option 4 ID : 4410096394894

Section : General Awareness

Q.1 जनवरी 2025 में आयोजित इंटरनेशनल सोलर कॉन्फ्रेंस के संबंध में निम्नलिखित में से कौन-सा कथन सही है?

- Ans
- 1. इसका आयोजन भारतीय ताराभौतिकी संस्थान (IIA) द्वारा नैनीताल की ताराभौतिकीय वेधशाला की 125वीं वर्षगांठ के स्मरणोत्सव मनाने के लिए किया गया था।
 - 2. उन्होंने सौर चुंबकत्व, सौर-तारकीय संबंध और अंतरिक्ष मौसम जैसे क्षेत्रों में अनुसंधान पर परिचर्चा की।
 - 3. यह कॉन्फ्रेंस जनवरी 2025 के पहले सप्ताह में आयोजित किया गया था।
 - 4. हैदराबाद में कॉन्फ्रेंस में भारत और विदेश के 200 से अधिक सौर भौतिकीविद् शामिल हुए।

Question ID : 441009321143
Option 1 ID : 4410091250835
Option 2 ID : 4410091250834
Option 3 ID : 4410091250836
Option 4 ID : 4410091250833

Q.2 दिसंबर 2025 में ISRO द्वारा उद्घाटन किए गए भारत के पहले निजी नेविगेशन केंद्र (navigation centre) का नाम क्या है?

- Ans
- 1. स्काईनेव अनुसंधान सुविधा (SkyNav Research Facility)
 - 2. भारतनव केंद्र (BharatNav Centre)
 - 3. अनंत सेंटर ऑफ एक्सीलेंस फॉर नेविगेशन (Ananth Centre of Excellence for Navigation)
 - 4. नाविक हब (NavIC Hub)

Question ID : 4410091563043
Option 1 ID : 4410096173738
Option 2 ID : 4410096173737
Option 3 ID : 4410096173736
Option 4 ID : 4410096173735

Q.3 गोदावरी नदी को किस लोकप्रिय नाम से जाना जाता है?

- Ans
- 1. पद्मा गंगा
 - 2. रामगंगा
 - 3. देव गंगा
 - 4. दक्षिण गंगा

Question ID : 441009377187
Option 1 ID : 4410091474147
Option 2 ID : 4410091474148
Option 3 ID : 4410091474149
Option 4 ID : 4410091474146

Q.4 नवंबर 2024 में आयोजित, 14वीं हॉकी इंडिया पुरुष सीनियर राष्ट्रीय चैंपियनशिप किस टीम ने जीती?

- Ans
- 1. हरियाणा
 - 2. ओडिशा
 - 3. मणिपुर
 - 4. असम

Question ID : 441009173967
Option 1 ID : 441009688284
Option 2 ID : 441009688285
Option 3 ID : 441009688286
Option 4 ID : 441009688287

Q.5 निम्नलिखित में से किसे वर्ष 2024 में गांधी मंडेला पुरस्कार 2020 प्राप्त हुआ?

- Ans
- 1. आंद्रे पोह (Andre Poh)
 - 2. रिगोबर्टा मेन्चु तुम (Rigoberta Menchu Tum)
 - 3. केपी शर्मा ओली (KP Sharma Oli)
 - 4. कोमी सेलोम (Komi Selom)

Question ID : 441009217408
Option 1 ID : 441009853588
Option 2 ID : 441009853589
Option 3 ID : 441009853591
Option 4 ID : 441009853590

Q.6 निम्नलिखित में से कौन-सी नदी, उत्पत्ति में पूर्ववर्ती है और हिमालय को काटकर गहरे महाखड्डों का निर्माण करती है?

- Ans
- 1. चंबल
 - 2. यमुना
 - 3. सोन
 - 4. सिंधु

Question ID : 441009371447
Option 1 ID : 4410091451693
Option 2 ID : 4410091451692
Option 3 ID : 4410091451694
Option 4 ID : 4410091451695

Q.7 निम्नलिखित में से कौन-सा, राज्य विधानमंडलों में दोहरी सदस्यता से संबंधित संवैधानिक प्रावधान को सटीक रूप से प्रतिबिंबित करता है?

- Ans
- 1. संविधान संधीय एकता को मजबूत करने के लिए राज्य विधानमंडलों में स्थायी दोहरी सदस्यता की अनुमति देता है।
 - 2. कोई व्यक्ति राष्ट्रपति की सहमति से एक साथ दो से अधिक राज्यों के विधानमंडलों में सीटें धारण कर सकता है।
 - 3. यदि कोई व्यक्ति एक से अधिक राज्य विधानसभाओं के लिए निर्वाचित होता है, तो उसे राष्ट्रपति के नियमों द्वारा निर्धारित समय सीमा के भीतर एक को छोड़कर शेष सभी से इस्तीफा देना होगा।
 - 4. पहली अनुसूची राज्य विधानमंडलों में दोहरी सदस्यता की अनुमति देती है यदि दोनों विधानसभाएं इसे मंजूरी दें।

Question ID : 441009671863
Option 1 ID : 4410092641549
Option 2 ID : 4410092641546
Option 3 ID : 4410092641548
Option 4 ID : 4410092641547

Q.8 इल्तुतमिश की उस पुत्री का नाम क्या था, जिसे उसने अपने उत्तराधिकारी के रूप में नियुक्त किया था, परंतु इल्तुतमिश की मृत्यु के बाद उसे कुछ कुलीनों के प्रतिरोध का सामना करना पड़ा?

- Ans
- 1. शाह तुर्कान
 - 2. नूरजहाँ
 - 3. रज़िया
 - 4. जहाँआरा

Question ID : 4410091551351
Option 1 ID : 4410096127748
Option 2 ID : 4410096127750
Option 3 ID : 4410096127747
Option 4 ID : 4410096127749

Q.9 19 अक्टूबर, 2025 को शुरू हुई ऑस्ट्रेलिया सीरीज के लिए भारतीय पुरुष ODI टीम के कप्तान कौन थे?

- Ans
- 1. शुभमन गिल
 - 2. रोहित शर्मा
 - 3. हार्दिक पांड्या
 - 4. के.एल. राहुल

Question ID : 4410091546823
Option 1 ID : 4410096110162
Option 2 ID : 4410096110160
Option 3 ID : 4410096110161
Option 4 ID : 4410096110163

Q.10 निम्नलिखित में से किस सम्राट ने शाही लाइसेंस जिसमें विशेष विशेषाधिकार प्रदान किए गए थे, जारी करके इंग्लिश ईस्ट इंडिया कंपनी के गठन को अधिकृत किया था?

- Ans
- 1. रानी विक्टोरिया
 - 2. महारानी एलिजाबेथ प्रथम
 - 3. राजा जेम्स द्वितीय
 - 4. रानी ऐनी

Question ID : 4410091551135
Option 1 ID : 4410096126788
Option 2 ID : 4410096126787
Option 3 ID : 4410096126789
Option 4 ID : 4410096126790

Q.11 भारत में आंतरिक प्रवासियों सहित सभी के लिए खाद्य सुरक्षा सुनिश्चित करने हेतु शुरू की गई राष्ट्रीय राशन कार्ड पोर्टेबिलिटी पहल का नाम क्या है?

- Ans
- 1. एक राष्ट्र, एक राशन कार्ड (One Nation, One Ration Card)
 - 2. एक नागरिक, एक कार्ड (One Citizen, One Card)
 - 3. एक राष्ट्र, एक कार्ड (One Nation, One Card)
 - 4. एक राशन कार्ड, एक नागरिक (One Ration Card, One Citizen)

Question ID : 441009199621
Option 1 ID : 441009785772
Option 2 ID : 441009785773
Option 3 ID : 441009785771
Option 4 ID : 441009785770

Q.12 निम्नलिखित में से कौन-सा ईंधन सर्वाधिक प्रदूषण का कारण बनता है?

- Ans 1. केरोसिन तेल
 2. सीएनजी (CNG)
 3. पेट्रोल
 4. एलएनजी (LNG)

Question ID : 441009616693
Option 1 ID : 4410092420943
Option 2 ID : 4410092420942
Option 3 ID : 4410092420944
Option 4 ID : 4410092420941

Q.13 उदारीकरण और वैश्वीकरण के बीच क्या संबंध है?

- Ans 1. उदारीकरण, वैश्वीकरण में बाधक है
 2. उदारीकरण और वैश्वीकरण असंबद्ध हैं
 3. उदारीकरण, वैश्वीकरण को लीड करता है
 4. वैश्वीकरण, उदारीकरण से पहले होता है

Question ID : 441009226715
Option 1 ID : 441009887695
Option 2 ID : 441009887698
Option 3 ID : 441009887696
Option 4 ID : 441009887697

Q.14 निम्नलिखित में से किस शास्त्रीय संगीत शैली में प्रदर्शन में मुख्य रूप से वीणा, मृदंगम और वायलिन जैसे वाद्ययंत्रों का उपयोग किया जाता है?

- Ans 1. हिंदुस्तानी
 2. ख्याल
 3. कर्नाटक
 4. ध्रुपद

Question ID : 441009753602
Option 1 ID : 4410092968389
Option 2 ID : 4410092968392
Option 3 ID : 4410092968391
Option 4 ID : 4410092968390

Q.15 निम्नलिखित में से किस स्थान पर भारतीय राष्ट्रीय कांग्रेस का पहला अधिवेशन आयोजित किया गया था?

- Ans
- 1. लखनऊ
 - 2. बॉम्बे
 - 3. लाहौर
 - 4. दिल्ली

Question ID : 441009328814
Option 1 ID : 4410091281667
Option 2 ID : 4410091281668
Option 3 ID : 4410091281666
Option 4 ID : 4410091281669

Q.16 निम्नलिखित में से कौन-सी, पारंपरिक भारतीय चित्रकला शैली जटिल पैटर्नों के लिए जानी जाती है और प्रायः कपड़े पर प्राकृतिक रंजकों का उपयोग करके बनाई जाती है?

- Ans
- 1. मधुवनी
 - 2. वली
 - 3. पट्टचित्र
 - 4. कालीघाट

Question ID : 441009749215
Option 1 ID : 4410092950699
Option 2 ID : 4410092950698
Option 3 ID : 4410092950700
Option 4 ID : 4410092950701

Q.17 खाद्य पदार्थों से संबंधित कानूनों को समेकित करने और उनके लिए विज्ञान-आधारित मानक निर्धारित करने के लिए 'खाद्य सुरक्षा और मानक अधिनियम' (Food Safety and Standards Act) किस वर्ष स्थापित किया गया था?

- Ans
- 1. 2006
 - 2. 2009
 - 3. 2000
 - 4. 2004

Question ID : 441009625378
Option 1 ID : 4410092455646
Option 2 ID : 4410092455647
Option 3 ID : 4410092455644
Option 4 ID : 4410092455645

Q.18 भारत के तटीय मैदानों के संबंध में निम्नलिखित में से कौन-सा कथन सही है?

- Ans
- 1. पश्चिमी तटीय मैदान विस्तृत है और इसमें डेल्टा पाए जाते हैं
 - 2. पश्चिमी तटीय मैदान चौड़ा है और इसमें लैगून हैं
 - 3. पूर्वी तटीय मैदान संकीर्ण है और इसमें ज्वारनदमुख हैं
 - 4. पूर्वी तटीय मैदान चौड़ा है और डेल्टा संरचनाएं पाए जाते हैं

Question ID : 441009350161
Option 1 ID : 4410091366923
Option 2 ID : 4410091366925
Option 3 ID : 4410091366922
Option 4 ID : 4410091366924

Q.19 निम्नलिखित में से मुख्यतः किस राष्ट्रीय चिंता की प्रतिक्रिया के रूप में "मेक इन इंडिया" पहल का प्रारंभ किया गया था?

- Ans
- 1. आर्थिक विकास में भारी गिरावट और विनिर्माण एवं नवाचार के माध्यम से विकास को पुनर्जीवित करने की आवश्यकता
 - 2. विदेशी ऋण में अत्यधिक वृद्धि और कृषि निर्यात को बढ़ावा देने की आवश्यकता
 - 3. भारतीय अर्थव्यवस्था को उदार बनाने और सार्वजनिक क्षेत्र के उद्यमों के निजीकरण के लिए अंतर्राष्ट्रीय संगठनों का दबाव
 - 4. 2008 के बाद वैश्विक वित्तीय संकट की अवधि में वर्धमान व्यापार घाटा और बढ़ती मुद्रास्फीति

Question ID : 441009672133
Option 1 ID : 4410092642627
Option 2 ID : 4410092642628
Option 3 ID : 4410092642629
Option 4 ID : 4410092642626

Q.20 इक्विटी पूंजी और पुनर्निवेशित आय, पूंजी लेखा के किस घटक का एक भाग हैं?

- Ans
- 1. प्रत्यक्ष निवेश
 - 2. बाहरी सहायता
 - 3. बाहरी ऋण
 - 4. पोर्टफोलियो निवेश

Question ID : 441009628865
Option 1 ID : 4410092469612
Option 2 ID : 4410092469615
Option 3 ID : 4410092469614
Option 4 ID : 4410092469613

Section : Arithmetical and Numerical Ability

Q.1 किसी चतुर्भुज PQRS में, यदि विकर्ण PR = 18 cm है, जिसमें SM = 8 cm और QN = 12 cm दिए गए विकर्ण PR पर लंबों की लंबाई हैं, तो चतुर्भुज का क्षेत्रफल (वर्ग cm में) ज्ञात कीजिए।

- Ans 1. 180
 2. 160
 3. 190
 4. 170

Question ID : 44100920224
 Option 1 ID : 44100980627
 Option 2 ID : 44100980625
 Option 3 ID : 44100980628
 Option 4 ID : 44100980626

Q.2 चेतन ने बैंक में ₹57,500 का निवेश किया। यदि पहले वर्ष ब्याज दर 4% वार्षिक थी और दूसरे वर्ष ब्याज दर, पहले वर्ष की ब्याज दर से 2% वार्षिक अधिक थी, तो ब्याज को वार्षिक रूप से संयोजित मानते हुए, दो वर्षों में उसे कितना चक्रवृद्धि ब्याज (₹ में) प्राप्त होगा?

- Ans 1. 5,538
 2. 6,138
 3. 5,688
 4. 5,888

Question ID : 441009573221
 Option 1 ID : 4410092248006
 Option 2 ID : 4410092248007
 Option 3 ID : 4410092248005
 Option 4 ID : 4410092248004

Q.3 भाग के एक प्रश्न में, भाजक, भागफल का 3 गुना और शेषफल का 4 गुना है। यदि शेषफल 42 है, तो भाज्य ज्ञात कीजिए।

- Ans 1. 9447
 2. 9450
 3. 9452
 4. 9448

Question ID : 441009560165
 Option 1 ID : 4410092195930
 Option 2 ID : 4410092195927
 Option 3 ID : 4410092195928
 Option 4 ID : 4410092195929

Q.4 यदि प्रथम n प्राकृत संख्याओं का योग 45 है, तो n का मान ज्ञात कीजिए।

- Ans 1. 9
 2. 7
 3. 8
 4. 10

Question ID : 44100910953
Option 1 ID : 44100943632
Option 2 ID : 44100943630
Option 3 ID : 44100943631
Option 4 ID : 44100943633

Q.5 किस राशि (₹ में) पर 3 वर्षों में 16% वार्षिक ब्याज दर से साधारण ब्याज के रूप में ₹1680 प्राप्त होगा?

- Ans 1. 3500
 2. 3700
 3. 3600
 4. 3800

Question ID : 441009852624
Option 1 ID : 4410093363468
Option 2 ID : 4410093363470
Option 3 ID : 4410093363469
Option 4 ID : 4410093363471

Q.6 एक दुकानदार, जैकेट का मूल्य, उसके क्रय मूल्य से 10% अधिक अंकित करता है और फिर बिक्री के समय एक निश्चित प्रतिशत की छूट देता है। यदि इस लेन-देन में उसे 12% की हानि होती है, तो दी गई छूट कितनी थी?

- Ans 1. 20%
 2. 21%
 3. 18%
 4. 19%

Question ID : 441009208804
Option 1 ID : 441009820501
Option 2 ID : 441009820502
Option 3 ID : 441009820499
Option 4 ID : 441009820500

Q.7 X ने ₹55000 का निवेश करके एक सॉफ्टवेयर व्यवसाय शुरू किया। दस माह बाद, Y भी ₹70000 की पूंजी के साथ व्यवसाय में शामिल हो गया। 1 वर्ष बाद, दोनों ने ₹64400 का लाभ अर्जित किया। लाभ में X का हिस्सा कितना था (₹ में, निकटतम पूर्णांक तक पूर्णांकित)?

- Ans
- 1. 53125
 - 2. 53130
 - 3. 53071
 - 4. 53112

Question ID : 441009898436
Option 1 ID : 4410093547817
Option 2 ID : 4410093547814
Option 3 ID : 4410093547816
Option 4 ID : 4410093547815

Q.8 10 संख्याओं का योग 660 है। उनका औसत ज्ञात कीजिए।

- Ans
- 1. 66
 - 2. 67
 - 3. 65
 - 4. 64

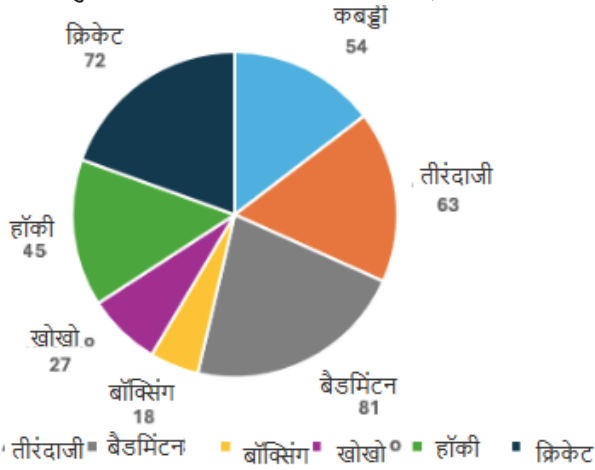
Question ID : 441009581971
Option 1 ID : 4410092283010
Option 2 ID : 4410092283012
Option 3 ID : 4410092283011
Option 4 ID : 4410092283013

Q.9 एक दुकानदार एक कमीज का मूल्य ₹1,600 अंकित करता है और उस पर 20% की छूट देता है। उसके बाद भी उसे 25% का लाभ प्राप्त होता है। कमीज का क्रय मूल्य ज्ञात कीजिए।

- Ans
- 1. ₹1,000
 - 2. ₹1,024
 - 3. ₹1,280
 - 4. ₹1,350

Question ID : 4410091546349
Option 1 ID : 4410096108267
Option 2 ID : 4410096108268
Option 3 ID : 4410096108269
Option 4 ID : 4410096108270

Q.10 निम्न पाई चार्ट में एक विशेष वर्ष के दौरान विभिन्न खेलों पर एक राज्य के व्यय को डिग्री के संदर्भ में दर्शाया गया है। खोखो पर कुल व्यय का कितना प्रतिशत खर्च किया जाता है?



- Ans
- 1. 9%
 - 2. 12%
 - 3. 27%
 - 4. 7.5%

Question ID : 441009364142
 Option 1 ID : 4410091422819
 Option 2 ID : 4410091422821
 Option 3 ID : 4410091422820
 Option 4 ID : 4410091422818

Q.11 किसी सेल के दौरान, 50% वस्तुओं को 44% लाभ पर बेचा जाता है, शेष वस्तुओं में से 22% वस्तुओं को 14% लाभ पर बेचा जाता है और उसके बाद बचे शेष वस्तुओं को 36% हानि पर बेचा जाता है। यदि इसमें x% का समग्र लाभ होता है, तो x का मान कितना होगा?

- Ans
- 1. 8.5
 - 2. 9.5
 - 3. 11
 - 4. 10

Question ID : 441009547569
 Option 1 ID : 4410092145675
 Option 2 ID : 4410092145672
 Option 3 ID : 4410092145674
 Option 4 ID : 4410092145673

Q.12 एक मोटर चालक 30 km की दूरी 50 मिनट में तय करता है जिसमें प्रथम 15 मिनट में उसकी चाल x kmph है, अगले 25 मिनट के लिए उसकी चाल दोगुनी है और उसके बाद वह शेष दूरी अपनी मूल चाल से तय करता है। x का मान ज्ञात कीजिए।

- Ans
- 1. 27
 - 2. 24
 - 3. 21
 - 4. 29

Question ID : 441009543105
 Option 1 ID : 4410092127818
 Option 2 ID : 4410092127816
 Option 3 ID : 4410092127817
 Option 4 ID : 4410092127819

Q.13 60 और 70 के बीच की अभाज्य संख्याओं के औसत तथा 40 और 70 के बीच 5 के गुणजों के औसत का अंतर ज्ञात कीजिए।

- Ans
- 1. 16
 - 2. 9
 - 3. 5
 - 4. 19

Question ID : 441009580970
 Option 1 ID : 4410092279007
 Option 2 ID : 4410092279006
 Option 3 ID : 4410092279009
 Option 4 ID : 4410092279008

Q.14 एक बेलनाकार पात्र जिसके ऊपर एक खोखला अर्धगोला लगा है, चावल रखने के लिए उपयोग किया जाता है। अर्धगोले का व्यास 42 cm है। यदि पात्र की कुल ऊंचाई 42 cm है, तो पात्र में रखे चावल का आयतन ज्ञात कीजिए।

$$\left(\pi = \frac{22}{7} \text{ का उपयोग कीजिए}\right)$$

- Ans
- 1. 29,106 cm³
 - 2. 48,510 cm³
 - 3. 67,914 cm³
 - 4. 16,170 cm³

Question ID : 441009621231
 Option 1 ID : 4410092439057
 Option 2 ID : 4410092439059
 Option 3 ID : 4410092439056
 Option 4 ID : 4410092439058

Q.15 एक स्कूल में खेलों में भाग लेने वाली लड़कियों और लड़कों की संख्या का अनुपात 1 : 5 है। यदि खेलों में भाग लेने वाली लड़कियों की संख्या 202 है, तो खेलों में भाग लेने वाले लड़कों की संख्या ज्ञात कीजिए।

- Ans
- 1. 1030
 - 2. 985
 - 3. 1040
 - 4. 1010

Question ID : 441009173302
Option 1 ID : 441009685714
Option 2 ID : 441009685713
Option 3 ID : 441009685715
Option 4 ID : 441009685712

Q.16 एक परीक्षा में, पूर्णांक 85 में से B को 54 अंक प्राप्त हुए, जबकि A को 75 अंक प्राप्त हुए। A के अंक, B के अंकों के लगभग कितने प्रतिशत थे?

- Ans
- 1. 85%
 - 2. 72%
 - 3. 88.23%
 - 4. 138.89%

Question ID : 441009856961
Option 1 ID : 4410093380818
Option 2 ID : 4410093380817
Option 3 ID : 4410093380819
Option 4 ID : 4410093380816

Q.17 54 cm भुजा वाले घन का सम्पूर्ण पृष्ठीय क्षेत्रफल ज्ञात कीजिए।

- Ans
- 1. 17496 cm²
 - 2. 17505 cm²
 - 3. 17442 cm²
 - 4. 17548 cm²

Question ID : 441009595191
Option 1 ID : 4410092335881
Option 2 ID : 4410092335883
Option 3 ID : 4410092335884
Option 4 ID : 4410092335882

Q.18 राम और रोहन किसी कार्य को क्रमशः 12 और 15 दिनों में पूरा कर सकते हैं। यदि वे 5 दिनों तक एकसाथ कार्य करते हैं, तो कार्य का कितना भाग शेष बचा?

- Ans
- ✓ 1. $\frac{1}{4}$
- ✗ 2. $\frac{1}{2}$
- ✗ 3. $\frac{2}{5}$
- ✗ 4. $\frac{2}{3}$

Question ID : 4410096054
Option 1 ID : 44100923995
Option 2 ID : 44100923993
Option 3 ID : 44100923996
Option 4 ID : 44100923994

Q.19 A और B के बीच की दूरी 1,182 km है। A से, सुमित 27 km/hr की चाल से B तक जाता है और 80 km/hr की चाल से A पर वापस आता है। सुमित की औसत चाल ज्ञात कीजिए। (दशमलव के दो स्थानों तक पूर्णांकित)

- Ans
- ✓ 1. 40.37 km/hr
- ✗ 2. 43.56 km/hr
- ✗ 3. 42.34 km/hr
- ✗ 4. 49.11 km/hr

Question ID : 441009209087
Option 1 ID : 441009821631
Option 2 ID : 441009821633
Option 3 ID : 441009821634
Option 4 ID : 441009821632

Q.20 1204 सैनिकों की एक टुकड़ी के पास 21 दिनों का राशन है। यदि टुकड़ी में सैनिकों की संख्या बढ़ाकर 1806 कर दी जाए, तो राशन कितने समय (दिनों में) तक चलेगा?

- Ans
- ✗ 1. 16
- ✓ 2. 14
- ✗ 3. 15
- ✗ 4. 13

Question ID : 441009522870
Option 1 ID : 4410092046902
Option 2 ID : 4410092046899
Option 3 ID : 4410092046901
Option 4 ID : 4410092046900

Q.1 Select the most appropriate option that can substitute the underlined words in the given sentence.
Our first human ancestors were a very rare species, they lived, under not safe or certain conditions.

- Ans
- 1. precarious
 - 2. ambitious
 - 3. tedious
 - 4. ambiguous

Question ID : 4410091543738
Option 1 ID : 4410096098021
Option 2 ID : 4410096098018
Option 3 ID : 4410096098020
Option 4 ID : 4410096098019

Q.2 Select the option that is the most appropriate antonym of the underlined word in the given sentence.

Her decision to abstain from the vote was seen as an act of prudence.

- Ans
- 1. feasibility
 - 2. malevolence
 - 3. shrewdness
 - 4. brashness

Question ID : 4410091639685
Option 1 ID : 4410096476100
Option 2 ID : 4410096476097
Option 3 ID : 4410096476099
Option 4 ID : 4410096476098

Q.3 Select the most appropriate article to fill in the blank. If no article is needed, select 'No article required'.

They had ____ nice carpet in the living-room.

- Ans
- 1. an
 - 2. a
 - 3. the
 - 4. No article required

Question ID : 441009482753
Option 1 ID : 4410091886362
Option 2 ID : 4410091886361
Option 3 ID : 4410091886363
Option 4 ID : 4410091886364

Q.4 Select the most appropriate option to substitute the underlined words in the given sentence.

I get exhausted by the evening because I get engaged in too many activities in the daytime.

- Ans 1. Have several irons in the fire
 2. Cut the mustard
 3. Grasp all, lose all
 4. Make hay while the sun shines

Question ID : 441009413034
Option 1 ID : 4410091617526
Option 2 ID : 4410091617528
Option 3 ID : 4410091617527
Option 4 ID : 4410091617529

Q.5 Select the most appropriate option to fill in the blank.

Satyajit Ray, a name synonymous _____ Indian cinema, was a renowned filmmaker.

- Ans 1. with
 2. in
 3. of
 4. for

Question ID : 4410091524591
Option 1 ID : 4410096021585
Option 2 ID : 4410096021586
Option 3 ID : 4410096021583
Option 4 ID : 4410096021584

Q.6 Four words have been underlined in the given sentence. One of them is misspelt. From the given options, select the misspelt word.

Only a prisoner who has been confined for long behind high walls can appriciate the extraordinary psychological value of these outside walks.

- Ans 1. psychological
 2. confined
 3. appriciate
 4. extraordinary

Question ID : 4410091544926
Option 1 ID : 4410096102762
Option 2 ID : 4410096102759
Option 3 ID : 4410096102760
Option 4 ID : 4410096102761

Q.7 Select the option that is the most appropriate antonym of the highlighted word in the given sentence.

Poor lighting hinders reading by making text hard to see clearly and comfortably.

- Ans
- 1. aids
 - 2. interferes
 - 3. abhors
 - 4. impedes

Question ID : 4410091603235
Option 1 ID : 4410096332136
Option 2 ID : 4410096332138
Option 3 ID : 4410096332139
Option 4 ID : 4410096332137

Q.8 Choose the option that can replace the highlighted text with the correct idiom.
He revealed the secret unintentionally and exposed the truth during the discussion.

- Ans
- 1. took a back seat
 - 2. blew hot and cold
 - 3. spilled the beans
 - 4. hit the sack

Question ID : 4410091527612
Option 1 ID : 4410096033654
Option 2 ID : 4410096033653
Option 3 ID : 4410096033651
Option 4 ID : 4410096033652

Q.9 Parts of a sentence are given below. While the first and the last part (S1) and (S6) are in correct order, the parts in between are jumbled up. Arrange the parts in the correct order to form a meaningful sentence.

S1. We understand that
P. can lead efforts in finding
Q. hope that the Resident's Association
R. from all residents, and we
S. addressing this issue requires cooperation
S6. a suitable solution.

- Ans
- 1. QRSP
 - 2. RPSQ
 - 3. SRQP
 - 4. PQRS

Question ID : 4410091534537
Option 1 ID : 4410096061398
Option 2 ID : 4410096061395
Option 3 ID : 4410096061396
Option 4 ID : 4410096061397

Q.10 Choose the correct option to complete the sentence.

He practiced every day _____ he could improve his performance.

- Ans
- 1. but
 - 2. so that
 - 3. although
 - 4. unless

Question ID : 4410091123434
Option 1 ID : 4410094429300
Option 2 ID : 4410094429299
Option 3 ID : 4410094429297
Option 4 ID : 4410094429298

Q.11 Select the most appropriate article to fill in the blank. If no article is needed, select 'No article required'.

_____ second room of this hotel is luxurious. We have arranged your stay there.2983

- Ans
- 1. The
 - 2. No article required
 - 3. A
 - 4. An

Question ID : 441009498237
Option 1 ID : 4410091948160
Option 2 ID : 4410091948163
Option 3 ID : 4410091948161
Option 4 ID : 4410091948162

Q.12 Select the correct sequence of parts P, Q, R, and S to form a grammatically correct and coherent sentence starting with segment (1).

1. The teacher
P) to maintain discipline
Q) asked the students
R) to keep quiet
S) during the morning assembly

- Ans
- 1. SRPQ
 - 2. QSRP
 - 3. QRSP
 - 4. QPRS

Question ID : 4410091553035
Option 1 ID : 4410096134459
Option 2 ID : 4410096134457
Option 3 ID : 4410096134458
Option 4 ID : 4410096134456

Q.13 Select the misspelt word.

- Ans
- 1. Idiotic
 - 2. Fragmantation
 - 3. Entrepreneur
 - 4. Multifarious

Question ID : 4410091265532
Option 1 ID : 4410094995031
Option 2 ID : 4410094995030
Option 3 ID : 4410094995033
Option 4 ID : 4410094995032

Q.14 Choose the most appropriate option to fill in the given blank.

Not only ___ he lie to the teacher, but he also blamed his friend.

- Ans
- 1. was
 - 2. does
 - 3. had
 - 4. did

Question ID : 4410091127418
Option 1 ID : 4410094445226
Option 2 ID : 4410094445225
Option 3 ID : 4410094445227
Option 4 ID : 4410094445224

Q.15 Choose the correct option that can be substituted for a person who believes that God is the sum or union of all the forces of the universe.

- Ans
- 1. Monotheist
 - 2. Pantheist
 - 3. Atheist
 - 4. Agnostic

Question ID : 4410091526298
Option 1 ID : 4410096028313
Option 2 ID : 4410096028312
Option 3 ID : 4410096028310
Option 4 ID : 4410096028311

Comprehension:

Read the given passage and answer the questions that follow.

Just beyond the beautiful beaches and bustling towns of the Yucatán Peninsula in Mexico lies an underground world of mystery: the cenotes. These freshwater sinkholes, created by the dissolution of limestone over thousands of years, have captivated the imagination of explorers, researchers, and tourists alike. The crystal-clear waters of the cenotes offer a view into a submerged realm, where ancient rituals, geological wonders, and rare aquatic life intersect. However, those who are claustrophobic or not strong swimmers might find this submerged world intimidating. Yet, for those brave enough to venture in, the cenotes reveal secrets of a world long past. Cenotes are a product of the region's geology. When the Yucatán's porous limestone bedrock erodes, it gives way to vast underground rivers and chambers. Over time, parts of the ground collapse, unveiling these hidden waters to the world above. Unlike the contemporary recreational spots with lifeguards and convenient amenities, the cenotes remain largely untouched, preserving their natural essence.

SubQuestion No : 16

Q.16 Identify the most appropriate title for the given passage.

- Ans
- 1. Dangers of Underground Swimming
 - 2. Exploring the Depths of the Cenotes
 - 3. How Limestone Formations Shape Beaches
 - 4. How Sinkholes Are Deformed

Question ID : 4410091185614
Option 1 ID : 4410094676690
Option 2 ID : 4410094676688
Option 3 ID : 4410094676687
Option 4 ID : 4410094676689

Comprehension:

Read the given passage and answer the questions that follow.

Just beyond the beautiful beaches and bustling towns of the Yucatán Peninsula in Mexico lies an underground world of mystery: the cenotes. These freshwater sinkholes, created by the dissolution of limestone over thousands of years, have captivated the imagination of explorers, researchers, and tourists alike. The crystal-clear waters of the cenotes offer a view into a submerged realm, where ancient rituals, geological wonders, and rare aquatic life intersect. However, those who are claustrophobic or not strong swimmers might find this submerged world intimidating. Yet, for those brave enough to venture in, the cenotes reveal secrets of a world long past. Cenotes are a product of the region's geology. When the Yucatán's porous limestone bedrock erodes, it gives way to vast underground rivers and chambers. Over time, parts of the ground collapse, unveiling these hidden waters to the world above. Unlike the contemporary recreational spots with lifeguards and convenient amenities, the cenotes remain largely untouched, preserving their natural essence.

SubQuestion No : 17

Q.17 Identify the correct summary of the passage.

- Ans**
- 1. Cenotes are formed by limestone erosion and reveal history and nature.
 - 2. Cenotes recently became tourist attractions and served as relaxation spots.
 - 3. Cenotes are popular swimming spots that gives a deeper dive into nature.
 - 4. Cenotes are very dangerous and only for experts to handle.

Question ID : 4410091185615
Option 1 ID : 4410094676692
Option 2 ID : 4410094676694
Option 3 ID : 4410094676691
Option 4 ID : 4410094676693



Comprehension:

Read the given passage and answer the questions that follow.

Just beyond the beautiful beaches and bustling towns of the Yucatán Peninsula in Mexico lies an underground world of mystery: the cenotes. These freshwater sinkholes, created by the dissolution of limestone over thousands of years, have captivated the imagination of explorers, researchers, and tourists alike. The crystal-clear waters of the cenotes offer a view into a submerged realm, where ancient rituals, geological wonders, and rare aquatic life intersect. However, those who are claustrophobic or not strong swimmers might find this submerged world intimidating. Yet, for those brave enough to venture in, the cenotes reveal secrets of a world long past. Cenotes are a product of the region's geology. When the Yucatán's porous limestone bedrock erodes, it gives way to vast underground rivers and chambers. Over time, parts of the ground collapse, unveiling these hidden waters to the world above. Unlike the contemporary recreational spots with lifeguards and convenient amenities, the cenotes remain largely untouched, preserving their natural essence.

SubQuestion No : 18

Q.18 Identify the central idea of the passage.

- Ans**
- 1. The cenotes are ancient formations that reveal a mysterious hidden world.
 - 2. The cenotes are ignored natural sites that have little historical value.
 - 3. The cenotes are modern attractions created for recreational purposes.
 - 4. The cenotes are dangerous places that most visitors choose to avoid.

Question ID : 4410091185616
Option 1 ID : 4410094676697
Option 2 ID : 4410094676695
Option 3 ID : 4410094676698
Option 4 ID : 4410094676696



Comprehension:

Read the given passage and answer the questions that follow.

Just beyond the beautiful beaches and bustling towns of the Yucatán Peninsula in Mexico lies an underground world of mystery: the cenotes. These freshwater sinkholes, created by the dissolution of limestone over thousands of years, have captivated the imagination of explorers, researchers, and tourists alike. The crystal-clear waters of the cenotes offer a view into a submerged realm, where ancient rituals, geological wonders, and rare aquatic life intersect. However, those who are claustrophobic or not strong swimmers might find this submerged world intimidating. Yet, for those brave enough to venture in, the cenotes reveal secrets of a world long past. Cenotes are a product of the region's geology. When the Yucatán's porous limestone bedrock erodes, it gives way to vast underground rivers and chambers. Over time, parts of the ground collapse, unveiling these hidden waters to the world above. Unlike the contemporary recreational spots with lifeguards and convenient amenities, the cenotes remain largely untouched, preserving their natural essence.

SubQuestion No : 19

Q.19 Which of the following is NOT a fact from the passage?

- Ans**
- 1. The cenotes were formed through the erosion of limestone bedrock.
 - 2. The cenotes can feel intimidating to people who are claustrophobic.
 - 3. The cenotes are fully developed recreational sites with lifeguards.
 - 4. The cenotes contain clear waters connected to underground rivers.

Question ID : 4410091185617
Option 1 ID : 4410094676699
Option 2 ID : 4410094676702
Option 3 ID : 4410094676701
Option 4 ID : 4410094676700



Comprehension:

Read the given passage and answer the questions that follow.

Just beyond the beautiful beaches and bustling towns of the Yucatán Peninsula in Mexico lies an underground world of mystery: the cenotes. These freshwater sinkholes, created by the dissolution of limestone over thousands of years, have captivated the imagination of explorers, researchers, and tourists alike. The crystal-clear waters of the cenotes offer a view into a submerged realm, where ancient rituals, geological wonders, and rare aquatic life intersect. However, those who are claustrophobic or not strong swimmers might find this submerged world intimidating. Yet, for those brave enough to venture in, the cenotes reveal secrets of a world long past. Cenotes are a product of the region's geology. When the Yucatán's porous limestone bedrock erodes, it gives way to vast underground rivers and chambers. Over time, parts of the ground collapse, unveiling these hidden waters to the world above. Unlike the contemporary recreational spots with lifeguards and convenient amenities, the cenotes remain largely untouched, preserving their natural essence.

SubQuestion No : 20

Q.20 Identify the tone of the passage.

- Ans** 1. Descriptive and reverent
 2. Aggressive and argumentative
 3. Critical and dismissive
 4. Humorous and casual

Question ID : 4410091185618
Option 1 ID : 4410094676704
Option 2 ID : 4410094676705
Option 3 ID : 4410094676703
Option 4 ID : 4410094676706

Section : Hindi Language and Comprehension

Q.1 निम्नलिखित विकल्पों में से कौन-सा वाक्य क्रम सही है?

- Ans** 1. बंद होने पर छात्र घर चले गये स्कूल।
 2. स्कूल बंद होने पर छात्र घर चले गये।
 3. छात्र घर चले गये होने पर स्कूल बंद।
 4. होने पर छात्र घर चले गये स्कूल बंद।

Question ID : 4410091527846
Option 1 ID : 4410096034584
Option 2 ID : 4410096034583
Option 3 ID : 4410096034586
Option 4 ID : 4410096034585

Q.2 'कूपमंडूक होना' मुहावरे का सही अर्थ क्या है ?

- Ans
- 1. दूरदर्शी होना
 - 2. अत्यंत सीमित ज्ञान होना
 - 3. अत्यधिक अनुभवी होना
 - 4. विद्वान होना

Question ID : 4410091547190
Option 1 ID : 4410096111630
Option 2 ID : 4410096111631
Option 3 ID : 4410096111629
Option 4 ID : 4410096111632

Q.3 श्रोता जोश में तालियाँ बजाने लगे।

वाक्य में प्रयुक्त श्रोता शब्द का विलोम क्या है?

- Ans
- 1. विषाद
 - 2. स्थूल
 - 3. वक्ता
 - 4. स्याह

Question ID : 4410091626320
Option 1 ID : 4410096423670
Option 2 ID : 4410096423671
Option 3 ID : 4410096423672
Option 4 ID : 4410096423669

Q.4 निम्नलिखित वाक्य के रेखांकित शब्द का विलोम बताएं -
'तुम हमेशा दूसरों की निंदा करते हो।'

- Ans
- 1. चुगली
 - 2. स्तुति
 - 3. भ्रष्टाचार
 - 4. बुराई

Question ID : 4410091530962
Option 1 ID : 4410096046922
Option 2 ID : 4410096046919
Option 3 ID : 4410096046921
Option 4 ID : 4410096046920

Q.5 नीचे दिए वाक्य को उपयुक्त विशेषण शब्द से पूरा कीजिए।
'_____ बर्फ़ी लेते आइएगा।'

- Ans 1. चार किलो
 2. चार लीटर
 3. चारों
 4. दस मील

Question ID : 4410091237894
 Option 1 ID : 4410094885106
 Option 2 ID : 4410094885104
 Option 3 ID : 4410094885105
 Option 4 ID : 4410094885107

Q.6 निम्नलिखित वाक्य के रिक्त स्थान में उचित क्रिया शब्द का प्रयोग करें -
'गरीब रामू ने आज दो दिन बाद खाना है।'

- Ans 1. खाया
 2. खिला
 3. खा
 4. खाना

Question ID : 4410091241996
 Option 1 ID : 4410094901333
 Option 2 ID : 4410094901335
 Option 3 ID : 4410094901332
 Option 4 ID : 4410094901334

Q.7 दिए गए वाक्यांश एक वाक्य के अभिन्न अंग हैं, जो क्रम से नहीं दिए गए हैं निम्नलिखित वाक्यों को सही क्रम में लगाइए-
 1. लोहे के पलंग पर पड़े अपने आपको देखता हूँ
 2. रात, सुबह, शाम बारी-बारी से
 3. और मैं अपनी फीकी आँखों से अँधेरे और उजाले को नहीं,
 4. मेरी शैया के पास घिर-घिर आते हैं

- Ans 1. 1,2,4,3
 2. 2,1,3,4
 3. 4,3,2,1
 4. 2,4,3,1

Question ID : 441009647702
 Option 1 ID : 4410092544862
 Option 2 ID : 4410092544865
 Option 3 ID : 4410092544863
 Option 4 ID : 4410092544864

Q.8 "इस कहानी___ उसने कलम___ लिखा।" रिक्त स्थान की पूर्ति उचित कारक से करें।

- Ans 1. को, से
 2. में, से
 3. से, को
 4. पर, एक

Question ID : 4410091288092
Option 1 ID : 4410095084221
Option 2 ID : 4410095084223
Option 3 ID : 4410095084220
Option 4 ID : 4410095084222

Q.9 निम्नलिखित वाक्य के रिक्त स्थान में उचित क्रिया शब्द का प्रयोग करें -
'नेहा सभी के लिए खाना रही है।'

- Ans 1. बना
 2. बनवाया
 3. बन
 4. बनता

Question ID : 4410091241955
Option 1 ID : 4410094901171
Option 2 ID : 4410094901170
Option 3 ID : 4410094901168
Option 4 ID : 4410094901169

Q.10 निम्नलिखित वाक्य में रेखांकित शब्द के पर्यायवाची शब्द का चयन दिए गए विकल्पों में से कीजिए-
सुबह की 'हवा' शुद्ध होती है।

- Ans 1. द्विज
 2. अनल
 3. हिरण्य
 4. समीर

Question ID : 4410091618523
Option 1 ID : 4410096392965
Option 2 ID : 4410096392964
Option 3 ID : 4410096392966
Option 4 ID : 4410096392963

Q.11 सही क्रिया-विशेषण का चयन कर वाक्य को पूर्ण कीजिए।
जहाँ अभी सड़क हैपहले खेत था।

- Ans 1. वहाँ
 2. तो
 3. फिर
 4. जब

Question ID : 4410091253874
Option 1 ID : 4410094948550
Option 2 ID : 4410094948552
Option 3 ID : 4410094948551
Option 4 ID : 4410094948553

Q.12 'मरने वाला है' किस लोकोक्ति का अर्थ है ?

- Ans 1. कब्र में पाँव लटकाए बैठा है
 2. कमली ओढ़ने से फकीर नहीं होता
 3. कचहरी का दरवाजा खुला है
 4. ओखली में सिर दिया है तो मूसल से क्या डर

Question ID : 4410091530590
Option 1 ID : 4410096045445
Option 2 ID : 4410096045443
Option 3 ID : 4410096045444
Option 4 ID : 4410096045446

Q.13 आघात से योद्धा मूर्छित होकर गिर पड़ा।

वाक्य में प्रयुक्त मूर्छित शब्द का विलोम क्या है?

- Ans 1. निष्काम
 2. बेसुध
 3. सचेत
 4. मंडन

Question ID : 4410091626305
Option 1 ID : 4410096423612
Option 2 ID : 4410096423610
Option 3 ID : 4410096423611
Option 4 ID : 4410096423609

Q.14 दिये गए वाक्य के रेखांकित शब्द का विलोम शब्द चुनिए -

अधिक शर्करा का सेवन दीर्घकाल में हृदय रोग के लिए घातक सिद्ध हो सकता है।

- Ans 1. रक्षक
 2. भक्षक
 3. साधक
 4. बाधक

Question ID : 4410091547301
 Option 1 ID : 4410096112073
 Option 2 ID : 4410096112072
 Option 3 ID : 4410096112074
 Option 4 ID : 4410096112071

Q.15 सफलता की प्यास उसे रात-दिन जगाए रखती थी।
 वाक्य में प्रयुक्त प्यास शब्द का पर्यायवाची क्या है?

- Ans 1. क्षिति
 2. तृष्णा
 3. सदृश
 4. भक्ष्य

Question ID : 4410091626457
 Option 1 ID : 4410096424200
 Option 2 ID : 4410096424201
 Option 3 ID : 4410096424202
 Option 4 ID : 4410096424203

Comprehension:

निम्नलिखित गद्यांश के आधार पर पूछे गए प्रश्नों के सही विकल्प का चयन करें-
 आदिकाल से ही मनुष्य के लिए सबसे समीप मनुष्य है। हम जिसके सुख-दुःख, हँसने रोने का मर्म समझ सकते हैं उसी से हमारी आत्मा का अधिक मेल होता है। विद्यार्थी को विद्यार्थी जीवन से, कृषक को कृषक जीवन से जितनी रुचि है, उतनी अन्य जातियों से नहीं, लेकिन साहित्य-जगत् में प्रवेश पाते ही यह भेद, यह पार्थक्य मिट जाता है। हमारी मानवता जैसे विशाल और विराट होकर समस्त मानव जाति पर अधिकार पा जाती है। मानव जाति ही नहीं चर और अचर, जड़ और चेतन सभी उसके अधिकार में आ जाते हैं। उसे मानो विश्व की आत्मा पर साम्राज्य प्राप्त हो जाता है। साहित्य वह जादू की लकड़ी है, जो पशुओं में, ईट-पत्थरों में, पेड़-पौधों में विश्व की आत्मा का दर्शन करा देती है। सच्चे साहित्यकार का यही लक्षण है कि उसके भावों में व्यापकता हो, उसका विश्व की आत्मा के साथ ऐसा सामंजस्य स्थापित हो गया हो कि उसके भाव प्रत्येक प्राणी को अपने ही भाव प्रतीत हों।

SubQuestion No : 16

Q.16 मनुष्य का मनुष्य के साथ आत्मा का मेल कब अधिक होता है?

- Ans 1. जब वे एक-दूसरे के सुख-दुःख और हँसने-रोने का मर्म समझते हैं
 2. जब वे एक-दूसरे की आर्थिक सहायता करते हैं
 3. जब वे एक ही जाति या व्यवसाय से जुड़े हों
 4. जब वे एक ही ऐतिहासिक कालखंड में रहते हों

Question ID : 4410091617914
 Option 1 ID : 4410096390532
 Option 2 ID : 4410096390533
 Option 3 ID : 4410096390534
 Option 4 ID : 4410096390531

Comprehension:

निम्नलिखित गद्यांश के आधार पर पूछे गए प्रश्नों के सही विकल्प का चयन करें-
आदिकाल से ही मनुष्य के लिए सबसे समीप मनुष्य है। हम जिसके सुख-दुःख, हँसने रोने का मर्म समझ सकते हैं उसी से हमारी आत्मा का अधिक मेल होता है। विद्यार्थी को विद्यार्थी जीवन से, कृषक को कृषक जीवन से जितनी रुचि है, उतनी अन्य जातियों से नहीं, लेकिन साहित्य-जगत् में प्रवेश पाते ही यह भेद, यह पार्थक्य मिट जाता है। हमारी मानवता जैसे विशाल और विराट होकर समस्त मानव जाति पर अधिकार पा जाती है। मानव जाति ही नहीं चर और अचर, जड़ और चेतन सभी उसके अधिकार में आ जाते हैं। उसे मानो विश्व की आत्मा पर साम्राज्य प्राप्त हो जाता है। साहित्य वह जादू की लकड़ी है, जो पशुओं में, ईट-पत्थरों में, पेड़-पौधों में विश्व की आत्मा का दर्शन करा देती है। सच्चे साहित्यकार का यही लक्षण है कि उसके भावों में व्यापकता हो, उसका विश्व की आत्मा के साथ ऐसा सामंजस्य स्थापित हो गया हो कि उसके भाव प्रत्येक प्राणी को अपने ही भाव प्रतीत हों।

SubQuestion No : 17**Q.17 साहित्य को 'जादू की लकड़ी' क्यों कहा गया है?**

- Ans
- 1. यह असंभव कार्यों को संभव बना देता है
 - 2. यह मनुष्य को जादुई शक्तियाँ प्रदान करता है
 - 3. यह निर्जीव और पशुओं में भी विश्व की आत्मा के दर्शन करा देता है
 - 4. यह समाज के नियमों को रातों-रात बदल देता है

Question ID : 4410091617915

Option 1 ID : 4410096390535

Option 2 ID : 4410096390536

Option 3 ID : 4410096390537

Option 4 ID : 4410096390538

Comprehension:

निम्नलिखित गद्यांश के आधार पर पूछे गए प्रश्नों के सही विकल्प का चयन करें-
आदिकाल से ही मनुष्य के लिए सबसे समीप मनुष्य है। हम जिसके सुख-दुःख, हँसने रोने का मर्म समझ सकते हैं उसी से हमारी आत्मा का अधिक मेल होता है। विद्यार्थी को विद्यार्थी जीवन से, कृषक को कृषक जीवन से जितनी रुचि है, उतनी अन्य जातियों से नहीं, लेकिन साहित्य-जगत् में प्रवेश पाते ही यह भेद, यह पार्थक्य मिट जाता है। हमारी मानवता जैसे विशाल और विराट होकर समस्त मानव जाति पर अधिकार पा जाती है। मानव जाति ही नहीं चर और अचर, जड़ और चेतन सभी उसके अधिकार में आ जाते हैं। उसे मानो विश्व की आत्मा पर साम्राज्य प्राप्त हो जाता है। साहित्य वह जादू की लकड़ी है, जो पशुओं में, ईट-पत्थरों में, पेड़-पौधों में विश्व की आत्मा का दर्शन करा देती है। सच्चे साहित्यकार का यही लक्षण है कि उसके भावों में व्यापकता हो, उसका विश्व की आत्मा के साथ ऐसा सामंजस्य स्थापित हो गया हो कि उसके भाव प्रत्येक प्राणी को अपने ही भाव प्रतीत हों।

SubQuestion No : 18**Q.18 गद्यांश में 'चर और अचर' का उल्लेख किसलिए किया गया है?**

- Ans
- 1. प्रकृति की सुंदरता का वर्णन करने के लिए
 - 2. यह दिखाने के लिए कि मानवता का विस्तार केवल मनुष्यों तक सीमित नहीं है
 - 3. पशुओं के प्रति दया भाव दिखाने के लिए
 - 4. विज्ञान और अध्यात्म का अंतर बताने हेतु

Question ID : 4410091617916

Option 1 ID : 4410096390541

Option 2 ID : 4410096390540

Option 3 ID : 4410096390542

Option 4 ID : 4410096390539

Comprehension:

निम्नलिखित गद्यांश के आधार पर पूछे गए प्रश्नों के सही विकल्प का चयन करें-
आदिकाल से ही मनुष्य के लिए सबसे समीप मनुष्य है। हम जिसके सुख-दुःख, हँसने रोने का मर्म समझ सकते हैं उसी से हमारी आत्मा का अधिक मेल होता है। विद्यार्थी को विद्यार्थी जीवन से, कृषक को कृषक जीवन से जितनी रुचि है, उतनी अन्य जातियों से नहीं, लेकिन साहित्य-जगत् में प्रवेश पाते ही यह भेद, यह पार्थक्य मिट जाता है। हमारी मानवता जैसे विशाल और विराट होकर समस्त मानव जाति पर अधिकार पा जाती है। मानव जाति ही नहीं चर और अचर, जड़ और चेतन सभी उसके अधिकार में आ जाते हैं। उसे मानो विश्व की आत्मा पर साम्राज्य प्राप्त हो जाता है। साहित्य वह जादू की लकड़ी है, जो पशुओं में, ईट-पत्थरों में, पेड़-पौधों में विश्व की आत्मा का दर्शन करा देती है। सच्चे साहित्यकार का यही लक्षण है कि उसके भावों में व्यापकता हो, उसका विश्व की आत्मा के साथ ऐसा सामंजस्य स्थापित हो गया हो कि उसके भाव प्रत्येक प्राणी को अपने ही भाव प्रतीत हों।

SubQuestion No : 19**Q.19 साहित्यिक भावों की 'व्यापकता' का क्या तात्पर्य है?**

- Ans
- 1. भावों का इतिहास की घटनाओं पर आधारित होना
 - 2. भावों का अत्यंत जटिल और कठिन होना
 - 3. भावों का केवल प्रसिद्ध लोगों तक पहुँचना
 - 4. भावों का प्रत्येक प्राणी को अपना ही भाव प्रतीत होना

Question ID : 4410091617917

Option 1 ID : 4410096390545

Option 2 ID : 4410096390546

Option 3 ID : 4410096390544

Option 4 ID : 4410096390543

Comprehension:

निम्नलिखित गद्यांश के आधार पर पूछे गए प्रश्नों के सही विकल्प का चयन करें-
आदिकाल से ही मनुष्य के लिए सबसे समीप मनुष्य है। हम जिसके सुख-दुःख, हँसने रोने का मर्म समझ सकते हैं उसी से हमारी आत्मा का अधिक मेल होता है। विद्यार्थी को विद्यार्थी जीवन से, कृषक को कृषक जीवन से जितनी रुचि है, उतनी अन्य जातियों से नहीं, लेकिन साहित्य-जगत् में प्रवेश पाते ही यह भेद, यह पार्थक्य मिट जाता है। हमारी मानवता जैसे विशाल और विराट होकर समस्त मानव जाति पर अधिकार पा जाती है। मानव जाति ही नहीं चर और अचर, जड़ और चेतन सभी उसके अधिकार में आ जाते हैं। उसे मानो विश्व की आत्मा पर साम्राज्य प्राप्त हो जाता है। साहित्य वह जादू की लकड़ी है, जो पशुओं में, ईट-पत्थरों में, पेड़-पौधों में विश्व की आत्मा का दर्शन करा देती है। सच्चे साहित्यकार का यही लक्षण है कि उसके भावों में व्यापकता हो, उसका विश्व की आत्मा के साथ ऐसा सामंजस्य स्थापित हो गया हो कि उसके भाव प्रत्येक प्राणी को अपने ही भाव प्रतीत हों।

SubQuestion No : 20**Q.20 गद्यांश में प्रयुक्त 'पार्थक्य' शब्द का सही अर्थ क्या है?**

- Ans
- 1. एकता
 - 2. अलगाव या पृथकता
 - 3. समानता
 - 4. समग्रता

Question ID : 4410091617918

Option 1 ID : 4410096390549

Option 2 ID : 4410096390548

Option 3 ID : 4410096390550

Option 4 ID : 4410096390547

Q.1 एक बच्चा जो अपने सहपाठी को क्षति पहुँचाने के बाद खेद व्यक्त करता है और सक्रिय रूप से क्षतिपूर्ति करने का प्रयास करता है, वह निम्नलिखित में से किस सक्षमता को प्रदर्शित करता है?

- Ans
- 1. आत्म-सम्मान
 - 2. नैतिक तर्क
 - 3. आत्म-अवधारणा
 - 4. सामाजिक सक्षमता

Question ID : 4410091541896
Option 1 ID : 4410096090750
Option 2 ID : 4410096090748
Option 3 ID : 4410096090747
Option 4 ID : 4410096090749

Q.2 प्रारंभिक बाल्यावस्था में संवेगात्मक विकास के संदर्भ में, जब बच्चे अपने स्वयं के संवेगों को समझना शुरू करते हैं, तो किस लक्षण के सबसे अधिक प्रेक्षित होने की संभावना होती है?

- Ans
- 1. संवेगों को पूरी तरह दबाना
 - 2. बिना समझे वयस्कों के संवेगों की नकल करना
 - 3. व्यक्तिगत भावनाओं को सटीक रूप से नाम देने (लेबल करने) का प्रयास करना
 - 4. दूसरों के संवेगों की निरंतर उपेक्षा करना

Question ID : 4410091628644
Option 1 ID : 4410096432722
Option 2 ID : 4410096432724
Option 3 ID : 4410096432723
Option 4 ID : 4410096432725

Q.3 निम्नलिखित में से कौन-सा विकल्प प्रारंभिक बाल्यावस्था में स्थूल और सूक्ष्म गत्यात्मक कौशल के बीच मुख्य अंतर का वर्णन करता है?

- Ans
- 1. स्थूल गत्यात्मक कौशल संवेग का उपयोग करता है; सूक्ष्म गत्यात्मक कौशल चिंतन का उपयोग करता है
 - 2. स्थूल गत्यात्मक कौशल बड़ी पेशियों का उपयोग करता है; सूक्ष्म गत्यात्मक कौशल छोटी पेशियों का उपयोग करता है
 - 3. स्थूल गत्यात्मक कौशल वाक् कौशल का उपयोग करता है; सूक्ष्म गत्यात्मक कौशल गति का उपयोग करता है
 - 4. स्थूल गत्यात्मक कौशल स्मृति का उपयोग करता है; सूक्ष्म गत्यात्मक कौशल अवधान का उपयोग करता है

Question ID : 4410091538031
Option 1 ID : 4410096075396
Option 2 ID : 4410096075395
Option 3 ID : 4410096075393
Option 4 ID : 4410096075394

Q.4 विकास की कौन-सी अवस्था तीव्र शारीरिक वृद्धि और मूलभूत गामक कौशल के विकास द्वारा अभिलक्षित होती है?

- Ans
- 1. वयस्कता
 - 2. किशोरावस्था
 - 3. शैशवावस्था
 - 4. प्रारंभिक बाल्यावस्था

Question ID : 4410091601805
Option 1 ID : 4410096326825
Option 2 ID : 4410096326822
Option 3 ID : 4410096326823
Option 4 ID : 4410096326824

Q.5 समाजीकरण की प्रक्रिया में, प्राथमिक अभिकर्ता (primary agent) किसे माना जाता है?

- Ans
- 1. प्रारंभिक बाल्यावस्था के समाजीकरण में सहपाठी एकमात्र प्राथमिक अभिकर्ता होते हैं।
 - 2. समाजीकरण प्रक्रिया में विद्यालय अन्य सभी अभिकर्ताओं से पहले आता है।
 - 3. परिवार समाजीकरण प्रक्रिया में प्राथमिक अभिकर्ता के रूप में कार्य करता है।
 - 4. मीडिया समाजीकरण का सबसे प्रभावशाली प्राथमिक अभिकर्ता है।

Question ID : 4410091631068
Option 1 ID : 4410096442496
Option 2 ID : 4410096442497
Option 3 ID : 4410096442495
Option 4 ID : 4410096442494

Q.6 निम्नलिखित में से कौन-सा, बच्चों में व्यक्तित्व विकास को प्रभावित करने वाला एक प्रमुख कारक है?

- Ans
- 1. पारिवारिक परिवेश (Family environment)
 - 2. कक्षा में बैठक व्यवस्था (Classroom seating arrangement)
 - 3. मौसमी जलवायु स्थितियाँ (Seasonal climate conditions)
 - 4. दैनिक आहार संबंधी आदतें (Daily dietary habits)

Question ID : 4410091607445
Option 1 ID : 4410096348752
Option 2 ID : 4410096348755
Option 3 ID : 4410096348753
Option 4 ID : 4410096348754

Q.7 कौन-सा विकल्प, किसी व्यक्ति के सामाजिक विकास को आकार देने वाले प्राथमिक कारक को निरूपित करता है?

- Ans
- 1. गुरुत्व
 - 2. नदियाँ
 - 3. पहाड़
 - 4. परिवार

Question ID : 4410091546947
Option 1 ID : 4410096110659
Option 2 ID : 4410096110658
Option 3 ID : 4410096110657
Option 4 ID : 4410096110656

Q.8 विश्वविद्यालय शिक्षा आयोग (राधा कृष्णन आयोग) 1948-49 की मुख्य सिफारिशों में से एक कौन-सी थी?

- Ans
- 1. शोध और उच्चतर शिक्षा पर बल
 - 2. विद्यालयों में व्यावसायिक पाठ्यक्रमों की शुरुआत
 - 3. सार्वभौमिक प्राथमिक शिक्षा पर केंद्रित करना
 - 4. प्राथमिक स्तर पर विद्यालयी पाठ्यचर्या में परिवर्तन

Question ID : 4410091607948
Option 1 ID : 4410096350738
Option 2 ID : 4410096350736
Option 3 ID : 4410096350739
Option 4 ID : 4410096350737

Q.9 एक बच्चा जो अपने सहपाठियों से समर्थन चाहता है और मित्रता को महत्व देता है, वह संभवतः विकास की किस अवस्था में है?

- Ans
- 1. मध्य बाल्यावस्था
 - 2. शैशवावस्था
 - 3. प्रारंभिक बाल्यावस्था
 - 4. किशोरावस्था

Question ID : 4410091600280
Option 1 ID : 4410096320805
Option 2 ID : 4410096320803
Option 3 ID : 4410096320804
Option 4 ID : 4410096320806

Q.10 निम्नलिखित में से किस आयोग ने मुख्यतः माध्यमिक विद्यालय शिक्षा पर फोकस किया?

- Ans
- 1. मुदालियर आयोग
 - 2. राष्ट्रीय ज्ञान आयोग
 - 3. राधाकृष्णन आयोग
 - 4. कोठारी आयोग

Question ID : 4410091570161
Option 1 ID : 4410096201643
Option 2 ID : 4410096201644
Option 3 ID : 4410096201641
Option 4 ID : 4410096201642

Q.11 निर्धनता, भाषाई विविधता और जातिगत स्तरीकरण की विशेषताओं वाले क्षेत्र के लिए एक समावेशी पाठ्यचर्या तैयार करते समय, कौन-सा उपागम सबसे प्रभावी है?

- Ans
- 1. सभी विद्यालयों में निरंतरता के लिए अनुदेश की एकल भाषा का उपयोग करना
 - 2. पाठ्यचर्या को केवल मानकीकृत परीक्षणों और राष्ट्रीय मानकों पर केंद्रित करना
 - 3. सभी शैक्षिक सामग्रियों में शहरी सांस्कृतिक मानदंडों को प्राथमिकता देना
 - 4. विविध आवश्यकताओं को पूरा करने के लिए स्थानीय भाषाओं और सांस्कृतिक रूप से प्रासंगिक विषयवस्तु को एकीकृत करना

Question ID : 4410091693323
Option 1 ID : 4410096679433
Option 2 ID : 4410096679432
Option 3 ID : 4410096679434
Option 4 ID : 4410096679431

Q.12 समूह व्यवहार का विश्लेषण करते समय समाजशास्त्र मुख्यतः मनोविज्ञान से कैसे भिन्न है?

- Ans
- 1. समाजशास्त्र का संबंध जीव विज्ञान से है, जबकि मनोविज्ञान का संबंध जीव विज्ञान से नहीं है।
 - 2. समाजशास्त्र समाज का अध्ययन करता है; मनोविज्ञान व्यक्तिगत मानसिक प्रक्रियाओं का अध्ययन करता है।
 - 3. समाजशास्त्र केवल व्यक्तियों का अध्ययन करता है, मनोविज्ञान केवल समूहों का अध्ययन करता है।
 - 4. समाजशास्त्र संस्कृति की उपेक्षा करता है, मनोविज्ञान संस्कृति को महत्व देता है।

Question ID : 4410091640976
Option 1 ID : 4410096481074
Option 2 ID : 4410096481072
Option 3 ID : 4410096481071
Option 4 ID : 4410096481073

Q.13 एक बच्चा जो छड़ियों को लंबाई के क्रम में व्यवस्थित करने जैसी सरल मानसिक संक्रियाएं कर सकता है, लेकिन अमूर्त विचारों को समझने में कठिनाई महसूस करता है, उसके पियाजे के संज्ञानात्मक विकास सिद्धांत के किस अवस्था में होने की सबसे अधिक संभावना है?

- Ans
- 1. मूर्त संक्रियात्मक अवस्था
 - 2. पूर्वसंक्रियात्मक अवस्था
 - 3. संवेदी-प्रेरक अवस्था
 - 4. औपचारिक संक्रियात्मक अवस्था

Question ID : 4410091678806
Option 1 ID : 4410096623435
Option 2 ID : 4410096623434
Option 3 ID : 4410096623433
Option 4 ID : 4410096623436

Q.14 एक सरकारी विद्यालय में, शिक्षकों को जनजातीय विद्यार्थियों की मातृभाषा में अधिगम सामग्री उपलब्ध कराने में कठिनाई होती है, जिसके कारण ये विद्यार्थी हिंदी बोलने वाले अपने सहपाठियों से पिछड़ जाते हैं। NEP-2020 के अनुसार, इस शैक्षिक अंतर को दूर करने के लिए किस उपागम का पक्ष-समर्थन किया गया है?

- Ans
- 1. केवल अंग्रेजी-माध्यम से शिक्षण प्रदान करना
 - 2. जनजातीय विद्यार्थियों को अलग-अलग उपचारात्मक कक्षाओं में असाइन करना
 - 3. कक्षा 5 तक मातृभाषा में शिक्षण लागू करना।
 - 4. निर्देशात्मक भाषा के रूप में विशेष रूप से हिंदी पर ध्यान केंद्रित करना

Question ID : 4410091628677
Option 1 ID : 4410096432855
Option 2 ID : 4410096432857
Option 3 ID : 4410096432854
Option 4 ID : 4410096432856

Q.15 भारत की स्वतंत्रता के बाद गठित माध्यमिक शिक्षा आयोग के अध्यक्ष कौन थे?

- Ans
- 1. डॉ. ए. लक्ष्मणस्वामी मुदालियर
 - 2. डॉ. एस. राधाकृष्णन
 - 3. डॉ. डी. एस. कोठारी
 - 4. डॉ. ज़ाकिर हुसैन

Question ID : 4410091607568
Option 1 ID : 4410096349241
Option 2 ID : 4410096349240
Option 3 ID : 4410096349242
Option 4 ID : 4410096349243

Q.16 निम्नलिखित में से कौन-सा कथन भारत में शिक्षा नीतियों पर उद्देशिका के प्रभाव को सर्वोत्तम रूप से दर्शाता है?

- Ans
- 1. यह केवल आर्थिक विकास को अनिवार्य बनाती है।
 - 2. यह शहरी क्षेत्रों में शैक्षिक विकास पर केंद्रित है।
 - 3. यह शिक्षा को प्राथमिक स्कूली शिक्षा तक सीमित करती है।
 - 4. यह न्याय, समानता और बंधुत्व पर बल देती है।

Question ID : 4410091630679
Option 1 ID : 4410096440862
Option 2 ID : 4410096440863
Option 3 ID : 4410096440865
Option 4 ID : 4410096440864

Q.17 एक शोधकर्ता ने पाया है कि निर्धन परिवार की लड़कियाँ प्रायः प्राथमिक शिक्षा छोड़कर बच्चों की देखभाल और घरेलू कार्य करने लगती हैं, जिससे उनकी पारंपरिक भूमिकाएँ और भी पुनर्बलित होती हैं। यह परिणाम किस प्रकार की सामाजिक माँगों की पूर्ति को सर्वोत्तम ढंग से व्याख्यायित करता है?

- Ans
- 1. जेंडर संबंधी कार्यनीतिक आवश्यकताएँ
 - 2. परिवर्तनीय विधिक अधिकार
 - 3. जेंडर संबंधी व्यावहारिक आवश्यकताएँ
 - 4. वैयक्तिक चयन की स्वायत्तता

Question ID : 4410091549560
Option 1 ID : 4410096120941
Option 2 ID : 4410096120944
Option 3 ID : 4410096120943
Option 4 ID : 4410096120942

Q.18 विद्याशाखा के रूप में समाजशास्त्र का मुख्य फोकस क्या है?

- Ans
- 1. गणितीय संकल्पनाओं का अध्ययन
 - 2. व्यक्तिगत मनोविज्ञान का अध्ययन
 - 3. प्राकृतिक विज्ञान का अध्ययन
 - 4. समाज और सामाजिक संबंधों का अध्ययन

Question ID : 4410091605799
Option 1 ID : 4410096342247
Option 2 ID : 4410096342245
Option 3 ID : 4410096342246
Option 4 ID : 4410096342244

Q.19 एक विद्यालय विद्यार्थियों के लिए सचेतन (mindfulness) अभ्यास और भावनात्मक विनियमन प्रशिक्षण शुरू करता है। ये कार्यक्रम मुख्य रूप से _____ में सुधार करके व्यक्तित्व विकास को प्रभावित करते हैं।

- Ans
- 1. शारीरिक लक्षण (Physical traits)
 - 2. प्राकृतिक बुद्धिमत्ता (Natural intelligence)
 - 3. आनुवंशिक स्वभाव (Genetic temperament)
 - 4. अधिगमित कोपिंग मैकेनिज्म (Learned coping mechanisms)

Question ID : 4410091541906
Option 1 ID : 4410096090789
Option 2 ID : 4410096090790
Option 3 ID : 4410096090787
Option 4 ID : 4410096090788

Q.20 निम्नलिखित में से कौन-सी एक प्रमुख सामाजिक चुनौती है जिस पर समसामयिक भारतीय समाज के संदर्भ में परिचर्चा की गई है?

- Ans
- 1. आधुनिकीकरण
 - 2. शहरीकरण
 - 3. तीव्र औद्योगीकरण
 - 4. जेंडर भेदभाव

Question ID : 4410091604640
Option 1 ID : 4410096337726
Option 2 ID : 4410096337725
Option 3 ID : 4410096337727
Option 4 ID : 4410096337724

Section : Discipline2

Q.1 कौन-सा शब्द ऐसे व्यक्ति को संदर्भित करता है जो कई भाषाओं को जानता है और उनका उपयोग करता है?

- Ans
- 1. द्विभाषी (Bilingual)
 - 2. द्विशब्दी (Diglossic)
 - 3. बहुभाषी (Polyglot)
 - 4. एकभाषी (Monoglot)

Question ID : 4410091576593
Option 1 ID : 4410096227182
Option 2 ID : 4410096227179
Option 3 ID : 4410096227180
Option 4 ID : 4410096227181

Q.2 निम्नलिखित में से कौन-सा, भारत में बहुभाषिता (multilingualism) का सर्वोत्तम वर्णन करता है?

- Ans
- 1. केवल क्षेत्रीय बोलियों बोलना
 - 2. केवल एक आधिकारिक भाषा का उपयोग
 - 3. दैनिक जीवन के हिस्से के रूप में अनेक भाषाओं का उपयोग
 - 4. विद्यालय में विदेशी भाषाएँ सीखना

Question ID : 4410091620177
Option 1 ID : 4410096399544
Option 2 ID : 4410096399543
Option 3 ID : 4410096399546
Option 4 ID : 4410096399545

Q.3 सहपाठी अनुशिक्षण का उपयोग करने का एक प्रमुख कारण यह है कि _____।

- Ans
- 1. यह सहयोग के स्थान पर प्रतिस्पर्धा को प्रोत्साहित करता है
 - 2. यह अभ्यास और वचनबद्धता की आवश्यकता को समाप्त करता है
 - 3. यह केवल तथ्यों को याद करने पर ध्यान केंद्रित करता है
 - 4. यह सुख देता है और अधिगम बाधाओं को कम करता है

Question ID : 4410091572380
Option 1 ID : 4410096210508
Option 2 ID : 4410096210510
Option 3 ID : 4410096210509
Option 4 ID : 4410096210511

Q.4 भाषा का स्वानुभाविक फलन (heuristic function) तब स्पष्ट होता है जब शिक्षार्थी _____ भाषा का उपयोग करते हैं।

- Ans
- 1. बिना जाँच के निर्देशों का पालन करके
 - 2. कहानियों के माध्यम से सहपाठियों के उत्तर देकर
 - 3. स्मरण किए गए उत्तरों को लिखकर
 - 4. जानकारी का अन्वेषण करके और पता लगाकर

Question ID : 4410091579996
Option 1 ID : 4410096241297
Option 2 ID : 4410096241300
Option 3 ID : 4410096241298
Option 4 ID : 4410096241299

Q.5 शैक्षिक विषयवस्तु वाली फिल्मों देखना शिक्षार्थियों को किस बात के लिए प्रोत्साहित करके आत्म-अवगाहन में सहायता करता है?

- Ans
- 1. निष्पादनों की तुलना करना
 - 2. संवादों को याद रखना
 - 3. अनुभवों पर अनुचितन
 - 4. सूचना रिकॉर्ड करना

Question ID : 4410091635714
Option 1 ID : 4410096460844
Option 2 ID : 4410096460846
Option 3 ID : 4410096460843
Option 4 ID : 4410096460845

Q.6 डिप्लोमा स्तर की पाठ्यचर्या समिति शांति शिक्षा को पाठ्यक्रम में शामिल करना चाहती है। शांति शिक्षा के उद्देश्यों और महत्व के साथ कौन-सा उपागम सबसे प्रभावी ढंग से मेल खाता है?

- Ans
- 1. विभिन्न विषयों में संघर्ष समाधान और परानुभूति कौशल को एकीकृत करना।
 - 2. शांति शिक्षा को एकल वैकल्पिक पाठ्यक्रम तक सीमित करना।
 - 3. स्कूलों में मुख्य रूप से दंडात्मक अनुशासनात्मक प्रथाओं पर भरोसा करना।
 - 4. सामाजिक शिक्षा लक्ष्यों के बिना शैक्षणिक उपलब्धि पर जोर देना।

Question ID : 4410091624640
Option 1 ID : 4410096417091
Option 2 ID : 4410096417092
Option 3 ID : 4410096417093
Option 4 ID : 4410096417094

Q.7 निम्नलिखित में से कौन-सा, व्यक्ति के मूल्यों और व्यवहार को आकार देने में समाजीकरण के साधन के रूप में परिवार की भूमिका का सर्वोत्तम रूप से वर्णन करता है?

- Ans
- 1. विद्यालय मुख्य रूप से औपचारिक शैक्षिक विकास के दौरान शैक्षणिक ज्ञान और कौशल विकसित करता है।
 - 2. किशोरावस्था के विकास के दौरान सहपाठी समूह मुख्य रूप से सामाजिक व्यवहार और अंतःक्रिया को प्रभावित करते हैं।
 - 3. परिवार मुख्य रूप से प्रारंभिक सामाजिक विकास के दौरान सामाजिक प्रतिमानकों को आकार देता है और आभ्यंतरिक मूल्यों को संचालित करता है।
 - 4. जन संचार के संपर्क में आने के दौरान मीडिया मुख्य रूप से अभिवृत्ति और परिप्रेक्ष्य को आकार देता है।

Question ID : 4410091624608
Option 1 ID : 4410096416964
Option 2 ID : 4410096416965
Option 3 ID : 4410096416963
Option 4 ID : 4410096416966

Q.8 निम्नलिखित में से कौन-सा, पाठ योजना के प्राथमिक उद्देश्य का सर्वोत्तम वर्णन करता है?

- Ans
- 1. यह सभी परीक्षाओं में विद्यार्थियों की सफलता की गारंटी देता है।
 - 2. यह विषय-वस्तु की प्रस्तुति में शिक्षक का मार्गदर्शन करता है।
 - 3. यह पाठ्यचर्या का स्थान ले लेता है।
 - 4. यह कक्षागत प्रबंधन की आवश्यकता को समाप्त कर देता है।

Question ID : 4410091619442
Option 1 ID : 4410096396624
Option 2 ID : 4410096396626
Option 3 ID : 4410096396627
Option 4 ID : 4410096396625

Q.9 कौन-सी क्रिया, पाठ योजना के मूल्यांकन चरण को दर्शाती है?

- Ans
- 1. प्रारंभ में एक लघु प्रेरक कहानी के माध्यम से अधिगमकर्ताओं को प्रेरित करना
 - 2. पाठ से पहले शिक्षण-अधिगम सामग्री तैयार करना और व्यवस्थित करना
 - 3. विद्यार्थियों के कक्षा प्रदर्शन की समीक्षा किए बिना गृहकार्य देना
 - 4. विद्यार्थियों की समझ के स्तर का आकलन करने के लिए उनसे लक्षित प्रश्न पूछना

Question ID : 4410091546779
Option 1 ID : 4410096109985
Option 2 ID : 4410096109986
Option 3 ID : 4410096109987
Option 4 ID : 4410096109984

Q.10 सामाजिक विषयों पर आधारित फिल्म देखते समय, कौन सा उपागम समझ को बेहतर विकसित करने में सहायक होता है?

- Ans
- 1. सभी संवादों को याद करना
 - 2. दृश्यों को वास्तविक जीवन की समस्याओं से जोड़ना
 - 3. केवल संगीत पर ध्यान केंद्रित करना
 - 4. पात्रों की प्रेरणाओं को अनदेखा करना

Question ID : 4410091632869
Option 1 ID : 4410096449597
Option 2 ID : 4410096449596
Option 3 ID : 4410096449594
Option 4 ID : 4410096449595

Q.11 निम्नलिखित में से कौन-सा, गणित शिक्षण की निगमनात्मक पद्धति में पहला चरण है?

- Ans
- 1. समस्या का समाधान करना
 - 2. समस्या की स्पष्ट पहचान करना
 - 3. परिणाम का सत्यापन करना
 - 4. एक अस्थायी परिकल्पना तैयार करना

Question ID : 4410091646666
Option 1 ID : 4410096502907
Option 2 ID : 4410096502905
Option 3 ID : 4410096502906
Option 4 ID : 4410096502908

Q.12 कौन-सी कक्षा अभ्यास विधि, प्रारंभिक शिक्षार्थियों में ग्राही और लाभकारी भाषा कौशल दोनों को विकसित करने के लिए साहित्य के उपयोग को सर्वोत्तम रूप से प्रदर्शित करती है?

- Ans
- 1. ऊँचे स्वर से पढ़ने के सत्रों और उसके बाद समूह कथाकारिता का आयोजन करना
 - 2. साप्ताहिक शब्दावली प्रश्नोत्तरी आयोजित करना
 - 3. समझ पर आधारित वर्कशीट के साथ स्वतंत्र पठन कार्य देना
 - 4. पठन के बाद मौन लेखन कार्यों को प्रोत्साहित करना

Question ID : 4410091698984
Option 1 ID : 4410096701552
Option 2 ID : 4410096701550
Option 3 ID : 4410096701549
Option 4 ID : 4410096701551

Q.13 किस प्रक्रिया में बच्चे भाषा को समझना और उसका उपयोग करना सीखते हैं?

- Ans
- 1. भाषा बोध (Language comprehension)
 - 2. भाषा प्रस्तुति (Language production)
 - 3. भाषा अर्जन (Language acquisition)
 - 4. भाषा संचरण (Language transmission)

Question ID : 4410091629382
Option 1 ID : 4410096435612
Option 2 ID : 4410096435611
Option 3 ID : 4410096435610
Option 4 ID : 4410096435613

Q.14 एक कक्षा में, एक शिक्षक व्याख्यान-आधारित शिक्षण से हटकर समूह चर्चा, भूमिका निर्वहन और परियोजना कार्य की ओर बढ़ता है, क्योंकि उसका मानना है कि ये तरीके गहरी समझ और आलोचनात्मक चिंतन को बढ़ावा देती हैं। यह परिदृश्य शिक्षाशास्त्र के किस मुख्य विचार पर प्रकाश डालता है?

- Ans
- 1. केवल विषय-वस्तु संचरण के रूप में शिक्षाशास्त्र
 - 2. एक स्थिर कार्यप्रणाली के रूप में शिक्षाशास्त्र
 - 3. कला और विज्ञान दोनों के रूप में शिक्षाशास्त्र
 - 4. केवल सैद्धांतिक रूप में शिक्षाशास्त्र

Question ID : 4410091629261
Option 1 ID : 4410096435137
Option 2 ID : 4410096435134
Option 3 ID : 4410096435136
Option 4 ID : 4410096435135

Q.15 किसी कक्षागत विचार-विमर्श के दौरान, शिक्षक विद्यार्थियों को अपने तर्कों का समर्थन करने के लिए व्यक्तिगत अनुभवों और सांस्कृतिक पृष्ठभूमि से प्रेरणा लेने के लिए प्रोत्साहित करते हैं। यहाँ शिक्षाशास्त्र के किस पहलू को प्राथमिकता दी जा रही है?

- Ans
- 1. मानकीकृत विषयवस्तु की विशिष्ट डिलीवरी
 - 2. प्रासंगिकता के बिना पृथक कौशल अर्जन
 - 3. शिक्षक-केंद्रित ज्ञान संचरण
 - 4. सामुदायिक वास्तविकताओं में अधिगम का संदर्भिकरण

Question ID : 4410091613264
Option 1 ID : 4410096371891
Option 2 ID : 4410096371893
Option 3 ID : 4410096371892
Option 4 ID : 4410096371890

Q.16 एक लर्निंग जर्नल को साधारण डायरी या लॉग से मुख्यतः क्या भिन्न करता है?

- Ans
- 1. यह मुख्यतः मूल्यांकन के लिए एक औपचारिक प्रशासनिक आवश्यकता के रूप में कार्य करता है
 - 2. यह समय के साथ चल रहे मुद्दों पर ध्यान केंद्रित करता है, जिसका उद्देश्य अनुचितन से अधिगम है
 - 3. इसमें केवल कार्यशालाओं या प्लेसमेंट के दौरान पूरे किए गए व्यावहारिक कार्यों का दस्तावेजीकरण किया जाता है
 - 4. इसमें घटनाओं को बिना किसी विश्लेषण या व्याख्या के कालानुक्रमिक क्रम में दर्ज किया जाता है

Question ID : 4410091572366
Option 1 ID : 4410096210455
Option 2 ID : 4410096210453
Option 3 ID : 4410096210454
Option 4 ID : 4410096210452

Q.17 एक शिक्षार्थी जो कक्षागत गतिविधियों के दौरान अपनी स्वयं की प्रतिक्रियाओं का प्रेक्षण और विचार करता है, तो वह आत्म-बोध के किस अवयव का अभ्यास कर रहा है?

- Ans
- 1. बाह्य वैधता (External validation)
 - 2. आत्म-प्रशंसा (Self-praise)
 - 3. निष्क्रिय श्रवण (Passive listening)
 - 4. प्रेक्षणिक अधिगम (Learning to observe)

Question ID : 4410091619237
Option 1 ID : 4410096395812
Option 2 ID : 4410096395813
Option 3 ID : 4410096395814
Option 4 ID : 4410096395815

Q.18 कौन-सा पहलू, प्रचलित सांस्कृतिक विश्व-दृष्टिकोणों को चुनौती देने में एक प्रतिष्ठित सांस्कृतिक व्यक्तित्व की समकालीन प्रासंगिकता को सटीक रूप से निरूपित करता है?

- Ans
- 1. सामाजिक मानदंडों पर समालोचनात्मक चिंतन को प्रेरित करने की उनकी क्षमता
 - 2. ऐतिहासिक श्रोताओं के साथ उनकी विशेष संलग्नता
 - 3. व्यक्तिगत उपलब्धियों और प्रशंसाओं (accolades) पर उनका फोकस
 - 4. पारंपरिक कलात्मक अभिव्यक्ति के प्रति उनकी प्रतिबद्धता

Question ID : 4410091644827
Option 1 ID : 4410096495842
Option 2 ID : 4410096495845
Option 3 ID : 4410096495844
Option 4 ID : 4410096495843

Q.19 एक नीति-निर्माता भारत में भाषा शिक्षा सुधारों का मूल्यांकन कर रहा है और त्रि-भाषा सूत्र और लचीले विकल्पों पर NEP-2020 द्वारा दिए गए बल पर विचार करता है। प्रदान किए गए संदर्भ के अनुसार, इन नीतियों का मुख्य तर्काधार क्या है?

- Ans
- 1. वे समावेशन और बेहतर संकल्पनात्मक अधिगम का समर्थन करते हैं।
 - 2. उनका लक्ष्य बोली जाने वाली भाषाओं की संख्या को कम करना है।
 - 3. वे अल्पभाषी भाषाओं को समाप्त करना चाहते हैं।
 - 4. वे व्याकरण के नियमों के स्मरणीकरण को बढ़ावा देते हैं।

Question ID : 4410091629332
Option 1 ID : 4410096435410
Option 2 ID : 4410096435411
Option 3 ID : 4410096435413
Option 4 ID : 4410096435412

Q.20 समूह अधिवासन (group settings) में व्यवहार का सामान्य नकारात्मक पैटर्न क्या होता है?

- Ans
- 1. टीम वर्क को प्रोत्साहित करना
 - 2. उत्तरदायित्वों को समान रूप से साझा करना
 - 3. समूह निर्णयों को अस्वीकार करना
 - 4. मतभेदों का सम्मान करना

Question ID : 4410091696601
Option 1 ID : 4410096692261
Option 2 ID : 4410096692262
Option 3 ID : 4410096692263
Option 4 ID : 4410096692264

Section : Discipline3

Q.1 नैतिक संहिता (code of ethics), आचार संहिता (code of conduct) से किस प्रकार भिन्न होती है?

- Ans
- 1. यह केवल विद्यार्थियों पर लागू होती है
 - 2. यह शिक्षकों के लिए वैकल्पिक होती है
 - 3. यह निर्णयन में मार्गदर्शन करती है, कार्यों में नहीं
 - 4. यह निर्णयों पर नहीं, कार्यों पर केंद्रित होती है

Question ID : 4410091572425
Option 1 ID : 4410096210651
Option 2 ID : 4410096210650
Option 3 ID : 4410096210649
Option 4 ID : 4410096210648

Q.2 कैडबरी डेयरी मिल्क (Cadbury Dairy Milk) का "कुछ भीठा हो जाए" अभियान _____ का उदाहरण है।

- Ans
- 1. सीरीज विज्ञापनों (Series Ads)
 - 2. मिनी फिक्शन विज्ञापनों (Mini Fiction ads)
 - 3. स्टैंड-अलोन विज्ञापनों (Stand-Alone Ads)
 - 4. डॉक्यूमेंट्री विज्ञापनों (Documentary Ads)

Question ID : 4410091572431
Option 1 ID : 4410096210673
Option 2 ID : 4410096210672
Option 3 ID : 4410096210674
Option 4 ID : 4410096210675

Q.3 विद्यार्थियों में समालोचनात्मक चिंतन को बढ़ावा देने के लिए प्रशिक्षक के लिए कौन-सा कौशल सबसे आवश्यक है?

- Ans
- 1. विषय विशेषज्ञता
 - 2. प्रश्न पूछने की तकनीकें
 - 3. समयपालन
 - 4. कक्षा प्रबंधन

Question ID : 4410091634740
Option 1 ID : 4410096457041
Option 2 ID : 4410096457039
Option 3 ID : 4410096457042
Option 4 ID : 4410096457040

Q.4 वैकल्पिक शिक्षा मॉडल पर आधारित एक नया विद्यालय स्थापित करने के दौरान, समावेशिता सुनिश्चित करने के लिए किस पहलू को प्राथमिकता दी जानी चाहिए?

- Ans
- 1. सभी के लिए निश्चित दैनिक समय-सारिणी
 - 2. विविध शिक्षार्थियों के लिए लचीला पाठ्यक्रम
 - 3. केंद्रीकृत निर्णयन
 - 4. सख्त और एकसमान नीतियाँ

Question ID : 4410091641238
Option 1 ID : 4410096482105
Option 2 ID : 4410096482107
Option 3 ID : 4410096482108
Option 4 ID : 4410096482106

Q.5 बच्चों का एक समूह "डॉक्टर," "नर्स," और "मरीज" जैसी भूमिकाएँ निभाता है, फिर एक साझा गतिविधि में शामिल होता है। यह स्थिति _____ का उदाहरण प्रस्तुत करती है।

- Ans
- 1. दर्शक खेल (Onlooker play)
 - 2. समानांतर खेल (Parallel play)
 - 3. सहकारी खेल (Cooperative play)
 - 4. रचनात्मक खेल (Constructive play)

Question ID : 4410091547001
Option 1 ID : 4410096110874
Option 2 ID : 4410096110876
Option 3 ID : 4410096110875
Option 4 ID : 4410096110877

Q.6 एक औपचारिक परीक्षा में, एक विद्यार्थी, 'He go to school every day' लिखता है। अर्थ स्पष्ट होने के बावजूद उत्तर को गलत चिह्नित किया जाता है। कौन-सा सिद्धांत इस मूल्यांकन को उचित ठहराता है?

- Ans
- 1. शुद्धता की तुलना में औचित्य अधिक महत्वपूर्ण है।
 - 2. लिखित परीक्षाओं पर बोली जाने वाली भाषा के मानदंड लागू होते हैं।
 - 3. औपचारिक संदर्भों के लिए शुद्धता आवश्यक है।
 - 4. परीक्षाओं में सांदर्भिक लचीलापन मान्य है।

Question ID : 4410091683626
Option 1 ID : 4410096641430
Option 2 ID : 4410096641432
Option 3 ID : 4410096641431
Option 4 ID : 4410096641433

Q.7 एक शिक्षक जोड़ और घटाना सिखाने के लिए खरीदारी से संबंधित इबारती प्रश्नों (story problems) का उपयोग करता है। यह पद्धति प्राथमिक स्तर के विद्यार्थियों में गणितीय ज्ञान के किस मुख्य पहलू को बढ़ावा देने के लिए सबसे प्रभावी है?

- Ans
- 1. संख्या तथ्यों का अभ्यास और पुनरावृत्ति
 - 2. दैनिक जीवन में गणित का अनुप्रयोग
 - 3. पुनरावृत्ति के माध्यम से तथ्यों का स्मरणीकरण
 - 4. बिना संदर्भ के अमूर्त तर्क

Question ID : 4410091679033
Option 1 ID : 4410096624338
Option 2 ID : 4410096624339
Option 3 ID : 4410096624337
Option 4 ID : 4410096624340

Q.8 अधिगम के नियमों के अनुसार, यदि किसी अनुक्रिया को लंबे समय तक उपयोग न किया जाए तो क्या होने की संभावना है?

- Ans
- 1. उसे पुनः स्मरण करना आसान हो जाएगा
 - 2. समय के साथ इसमें सुधार होगा
 - 3. उसे भुला दिया जाएगा
 - 4. उसे प्रबलता से याद किया जाएगा

Question ID : 4410091602563
Option 1 ID : 4410096329822
Option 2 ID : 4410096329823
Option 3 ID : 4410096329820
Option 4 ID : 4410096329821

Q.9 विद्यार्थियों को 'फैन्' और 'विंडो' जैसे शब्द सिखाने के लिए कौन-सी विधि अनुशंसित है?

- Ans 1. प्रत्यक्ष विधि
 2. अनुवाद विधि
 3. व्याकरण व्याख्या विधि
 4. व्याख्यान विधि

Question ID : 4410091682477
 Option 1 ID : 4410096637172
 Option 2 ID : 4410096637170
 Option 3 ID : 4410096637173
 Option 4 ID : 4410096637171

Q.10 जब शिक्षक पाठों को वास्तविक जीवन के उदाहरणों से जोड़ते हैं, तो विद्यार्थी बेहतर प्रदर्शन करते हैं। यह अधिगम को प्रभावित करने वाले किस कारक को दर्शाता है?

- Ans 1. दंड-आधारित अनुशासनात्मक अभ्यास की भूमिका
 2. शैक्षिक निष्पादन पर शारीरिक स्वास्थ्य का प्रभाव
 3. अधिगम प्रतिफलों पर विद्यालय की अवसंरचना का प्रभाव
 4. शिक्षार्थी के अभिप्रेरण और विषय-वस्तु की प्रासंगिकता का प्रभाव

Question ID : 4410091568379
 Option 1 ID : 4410096194802
 Option 2 ID : 4410096194800
 Option 3 ID : 4410096194801
 Option 4 ID : 4410096194803

Q.11 Why is English considered a global language?

- Ans 1. It is only used in literature
 2. It is rarely taught in schools
 3. It is spoken only in English-speaking countries
 4. It is used for international communication and education

Question ID : 4410091547886
 Option 1 ID : 4410096114378
 Option 2 ID : 4410096114377
 Option 3 ID : 4410096114375
 Option 4 ID : 4410096114376

Q.12 एक सामुदायिक समूह अपने नए वैकल्पिक विद्यालय के कई मॉडलों में से एक का चयन कर रहा है। वे मिश्रित आयु वर्ग के समूह और व्यावहारिक सामग्री चाहते हैं ताकि कम आयु से ही बच्चों में आत्मनिर्भरता की भावना विकसित हो सके। उन्हें किस मॉडल का अध्ययन मार्गदर्शक के रूप में करना चाहिए?

- Ans
- 1. वाल्डोर्फ/स्टेनर मॉडल (Waldorf/Steiner model)
 - 2. मांटेसरी मॉडल (Montessori model)
 - 3. फॉरेस्ट/रेजीओ एमिलिया मॉडल (Forest/Reggio Emilia model)
 - 4. सुडबरी/डेमोक्रेटिक मॉडल (Sudbury/Democratic model)

Question ID : 4410091632956
Option 1 ID : 4410096449943
Option 2 ID : 4410096449942
Option 3 ID : 4410096449945
Option 4 ID : 4410096449944

Q.13 एक अच्छा शिक्षक जिज्ञासा को प्रोत्साहित करता है और कक्षा-कक्ष में सम्मान का मॉडल (आदर्श) बनाता है। यह क्या दर्शाता है?

- Ans
- 1. विषयवस्तु की सही प्रस्तुति और परीक्षा परिणामों पर बल देना
 - 2. नियंत्रण और अनुशासन के माध्यम से प्राधिकार बनाए रखने पर फोकस करना
 - 3. अनम्य अनुदेशनात्मक दिनचर्या और प्रक्रियाओं पर निर्भरता
 - 4. शिक्षार्थियों में सकारात्मक मूल्यों और अभिवृत्तियों का विकास

Question ID : 4410091568383
Option 1 ID : 4410096194816
Option 2 ID : 4410096194817
Option 3 ID : 4410096194819
Option 4 ID : 4410096194818

Q.14 किसी प्राथमिक विद्यालय की शिक्षिका एक ऐसी परियोजना को कक्षा में शामिल करती है जिसमें विद्यार्थी कक्षा की वस्तुओं को मापते हैं, अपने निष्कर्षों को रिकॉर्ड करते हैं और अपने समकक्षियों के साथ अपनी विधियों को साझा करते हैं। प्राथमिक चरण पर गणित शिक्षा का कौन-सा उद्देश्य इस उपागम से प्रभावी ढंग से प्रदर्शित होता है?

- Ans
- 1. सक्रिय समस्या-समाधान और तर्कबुद्धि को बढ़ावा देना
 - 2. गणित को दैनिक जीवन की स्थितियों से जोड़ना
 - 3. विद्यार्थियों को सही मापन चरणों का अभ्यास कराने में सहायता करना
 - 4. मापन उपकरणों के उपयोग में परिशुद्धता में सुधार करना

Question ID : 4410091623833
Option 1 ID : 4410096413906
Option 2 ID : 4410096413905
Option 3 ID : 4410096413904
Option 4 ID : 4410096413907

Q.15 संज्ञानात्मक परिप्रेक्ष्य से, अधिगम को _____ के रूप में सटीक रूप से समझा जा सकता है।

- Ans
- 1. ज्ञान के सक्रिय निर्माण
 - 2. सूचना के निष्क्रिय अभिग्रहण
 - 3. प्रतिरूपित व्यवहार के अनुकरण
 - 4. उद्दीपन-अनुक्रिया अनुबंधों के निर्माण

Question ID : 4410091580771
Option 1 ID : 4410096244414
Option 2 ID : 4410096244417
Option 3 ID : 4410096244416
Option 4 ID : 4410096244415

Q.16 In most learners, which vocabulary type is usually larger?

- Ans
- 1. Active vocabulary
 - 2. Technical vocabulary
 - 3. Colloquial vocabulary
 - 4. Passive vocabulary

Question ID : 4410091638874
Option 1 ID : 4410096473073
Option 2 ID : 4410096473074
Option 3 ID : 4410096473075
Option 4 ID : 4410096473072

Q.17 निम्नलिखित में से कौन-से कौशल, एक अच्छा सुविधाप्रदाता (good facilitator) बनने के लिए आवश्यक नहीं है?

- Ans
- 1. संबंध निर्माण
 - 2. उदासीन अभिवृत्ति
 - 3. सुनना और प्रश्न पूछना
 - 4. चिंतन और रूपांतरण

Question ID : 4410091546983
Option 1 ID : 4410096110802
Option 2 ID : 4410096110804
Option 3 ID : 4410096110803
Option 4 ID : 4410096110805

Q.18 कौन-सी प्रक्रिया, नए अनुभवों को समझने के लिए मौजूदा संज्ञानात्मक संरचनाओं के उपयोग का वर्णन करती है?

- Ans
- 1. संगठन (Organization)
 - 2. साम्यन (Equilibration)
 - 3. स्वांगीकरण (Assimilation)
 - 4. समंजन (Accommodation)

Question ID : 4410091610596
Option 1 ID : 4410096361270
Option 2 ID : 4410096361269
Option 3 ID : 4410096361267
Option 4 ID : 4410096361268

Q.19 जब प्राथमिक शिक्षा निदेशक अधिगम प्रगति की जांच करता है और यह सुनिश्चित करता है कि विद्यालयों में राज्य नीतियों का समय पर पालन किया जा रहा है, तो निदेशक किस पर ध्यान केंद्रित कर रहा है?

- Ans
- 1. नीतियों की निगरानी और शैक्षणिक कार्यों का मार्गदर्शन करने पर
 - 2. कॉलेज और विश्वविद्यालयों के लिए परिवहन के संचालन पर
 - 3. निजी शिक्षा समूहों के लिए धन जुटाने पर
 - 4. केवल खेलों और सांस्कृतिक कार्यक्रमों की योजना बनाने पर

Question ID : 4410091547923
Option 1 ID : 4410096114483
Option 2 ID : 4410096114486
Option 3 ID : 4410096114484
Option 4 ID : 4410096114485

Q.20 यदि कोई विद्यालय अपने अधिगम परिवेश का मूल्यांकन करना चाहता है, तो किन दो अवसंरचना संकेतकों की एक साथ समीक्षा की जानी चाहिए?

- Ans
- 1. विद्यार्थी-कक्षा अनुपात और व्यावसायिक शिक्षा कार्यान्वयन
 - 2. सुरक्षा ऑडिट की आवृत्ति और DIET प्रशिक्षण कार्यक्रमों की संख्या
 - 3. विभिन्न सुविधाओं की उपस्थिति और कक्षाओं तथा ICT सुविधाओं का उपयोग
 - 4. TPD/CPD से गुजरने वाले शिक्षकों का प्रतिशत और विद्यालय सुरक्षा समिति

Question ID : 4410091609169
Option 1 ID : 4410096355595
Option 2 ID : 4410096355594
Option 3 ID : 4410096355593
Option 4 ID : 4410096355592

Q.1 सामाजिक विज्ञान और सामाजिक अध्ययन के बीच उनकी प्रकृति को सबसे अच्छी तरह से विभेदित करने वाला पहलू कौन-सा है?

- Ans
- 1. सामाजिक विज्ञान, अनुसंधान विधियों पर केंद्रित है।
 - 2. दोनों में तथ्यों को याद करना शामिल है।
 - 3. सामाजिक अध्ययन में अर्थशास्त्र शामिल नहीं है।
 - 4. सामाजिक अध्ययन में नागरिकता पर जोर दिया जाता है।

Question ID : 4410091638494
Option 1 ID : 4410096471666
Option 2 ID : 4410096471668
Option 3 ID : 4410096471669
Option 4 ID : 4410096471667

Q.2 एक शिक्षक जो फोकस (focus) बनाए रखने के लिए आवाज बदलता है, कमरे में घूमता है और भाव-भंगिमा (gesture) का उपयोग करता है, वह _____ प्रदर्शित कर रहा है।

- Ans
- 1. विद्यार्थी वचनबद्धता को बनाए रखने के लिए उद्दीपक विचरण
 - 2. प्रभावी कक्षागत व्यवहार प्रबंधन रणनीति
 - 3. अनुदेशनात्मक स्पष्टता के लिए अशाब्दिक संचार
 - 4. अधिगम शैलियों से निपटने के लिए विभेदित शिक्षण

Question ID : 4410091548496
Option 1 ID : 4410096116681
Option 2 ID : 4410096116680
Option 3 ID : 4410096116682
Option 4 ID : 4410096116683

Q.3 ग्रामीण क्षेत्र के एक समूह में, एक विद्यालय विशेष आवश्यकता वाले बालकों के स्वास्थ्य और शिक्षा में सहयोग देने के लिए एक NGO के साथ समझौता ज्ञापन (MOU) करता है। इस संदर्भ के अनुसार, इस साझेदारी की अपेक्षित निरंतरता (expected sustainability) की सर्वोत्तम व्याख्या क्या है?

- Ans
- 1. विद्यालय के कर्मचारियों और NGO प्रतिनिधियों के बीच कभी-कभार होने वाली बैठकें
 - 2. NGO द्वारा विद्यालय को वार्षिक संसाधन दान
 - 3. सभी गतिविधियों के लिए बिना शर्त सरकारी अनुदान
 - 4. MOU में स्पष्ट रूप से परिभाषित भूमिकाएँ और नियमित मूल्यांकन तंत्र

Question ID : 4410091633003
Option 1 ID : 4410096450133
Option 2 ID : 4410096450130
Option 3 ID : 4410096450132
Option 4 ID : 4410096450131

Q.4 शिक्षार्थियों के लेखन कौशल का आकलन करते समय कौन-सा पहलू सबसे महत्वपूर्ण है?

- Ans
- 1. केवल शब्दों की कुल संख्या गिनना
 - 2. विषयवस्तु रचना (organization) और स्पष्टता का मूल्यांकन करना
 - 3. केवल हस्तलेखन की स्वच्छता (neatness) पर फोकस करना
 - 4. व्याकरणिक शुद्धता को पूर्ण रूप से अनदेखा करना

Question ID : 4410091641207
Option 1 ID : 4410096481982
Option 2 ID : 4410096481981
Option 3 ID : 4410096481983
Option 4 ID : 4410096481984

Q.5 GTM कक्षाओं में किस कौशल पर सबसे कम बल दिया जाता है?

- Ans
- 1. व्याकरण के नियम
 - 2. बोलना और सुनना
 - 3. अनुवाद
 - 4. पढ़ना और लिखना

Question ID : 4410091608475
Option 1 ID : 4410096352814
Option 2 ID : 4410096352815
Option 3 ID : 4410096352813
Option 4 ID : 4410096352812

Q.6 प्राथमिक शिक्षा के निदेशक विद्यालय की संस्कृति में सकारात्मक बदलाव लाना चाहते हैं। इसके लिए कौन-सी रणनीति सबसे प्रभावी है?

- Ans
- 1. सहयोगात्मक नेतृत्व और साझा निर्णयन को बढ़ावा देना
 - 2. प्रशासनिक निरीक्षण और लिखित रिपोर्टिंग में वृद्धि करना
 - 3. सभी विद्यालयों में कक्षा-अभ्यासों का मानकीकरण करना
 - 4. विस्तृत नियमावली जारी करना और सख्त अनुपालन लागू करना

Question ID : 4410091637235
Option 1 ID : 4410096466475
Option 2 ID : 4410096466477
Option 3 ID : 4410096466478
Option 4 ID : 4410096466476

Q.7 एक स्कूल शिक्षण के माध्यम से सतत कार्य-पद्धतियों को बढ़ावा देना चाहता है। निम्न लागत या बिना लागत वाली सामग्रियों का उपयोग करने वाली कौन-सी रणनीति सबसे उपयुक्त है?

- Ans
- 1. कला के लिए अपशिष्ट पदार्थों का उपयोग करके एक प्रोजेक्ट का आयोजन करना
 - 2. निदर्शनों के लिए बाह्य विशेषज्ञों को नियुक्त करना
 - 3. वाणिज्यिक फ्लैशकार्ड वितरित करना
 - 4. प्रत्येक कक्षा के लिए नए प्लास्टिक मॉडल खरीदना

Question ID : 4410091637718
Option 1 ID : 4410096468450
Option 2 ID : 4410096468453
Option 3 ID : 4410096468452
Option 4 ID : 4410096468451

Q.8 किस चरण में शीर्षक (topic) को स्पष्ट रूप से ब्लैकबोर्ड पर लिखा जाता है ताकि अधिगमकर्ताओं को उद्देश्य स्पष्ट रूप से समझ में आ जाए?

- Ans
- 1. प्रस्तुतीकरण (Presentation)
 - 2. उद्देश्य का विवरण (Statement of Aim)
 - 3. सामान्यीकरण (Generalization)
 - 4. तुलना और साहचर्य (Comparison and Association)

Question ID : 4410091572468
Option 1 ID : 4410096210806
Option 2 ID : 4410096210804
Option 3 ID : 4410096210807
Option 4 ID : 4410096210805

Q.9 शिक्षा के संदर्भ में उदासीकरण का मुख्य फोकस क्या है?

- Ans
- 1. राज्य नियंत्रण बढ़ाना
 - 2. एकसमान पाठ्यचर्या लागू करना
 - 3. सरकारी प्रतिबंधों को कम करना
 - 4. केवल सार्वजनिक शिक्षा को बढ़ावा देना

Question ID : 4410091633660
Option 1 ID : 4410096452731
Option 2 ID : 4410096452733
Option 3 ID : 4410096452730
Option 4 ID : 4410096452732

Q.10 सामाजिक विज्ञान की पाठ्यपुस्तकों के संरचित विश्लेषण की आवश्यकता, मुख्यतः किस छिपे हुए पाठ्यचर्या पूर्वाग्रह को उजागर करने के लिए है?

- Ans
- 1. वस्तुनिष्ठ डेटा संकलन जिसमें आख्यान रचना की उपेक्षा की गई हो
 - 2. व्याख्यात्मक परतों के बिना तटस्थ तथ्य प्रस्तुति
 - 3. एकसमान कवरेज जिसमें क्षेत्रीय संदर्भ भिन्नताओं का अपवर्जन किया गया हो
 - 4. सैद्धांतिक फ्रेमन जो सामाजिक मूल्यों की धारणाओं को प्रभावित करता हो

Question ID : 4410091564600
Option 1 ID : 4410096179985
Option 2 ID : 4410096179988
Option 3 ID : 4410096179986
Option 4 ID : 4410096179987

Q.11 एक शिक्षक चाहता है कि विद्यार्थी कम लागत या बिना लागत वाली सामग्री का उपयोग करके पौधों की विविधता के बारे में सीखें। कौन-सा तरीका इस सिद्धांत के साथ सबसे प्रभावी ढंग से मेल खाता है और साथ ही विद्यार्थियों की सक्रिय भागीदारी को भी प्रोत्साहित करता है?

- Ans
- 1. वनस्पति विज्ञान की मुद्रित पाठ्यपुस्तकों का वितरण करना
 - 2. क्लास के लिए प्लास्टिक संयंत्र मॉडल खरीदना
 - 3. विद्यार्थियों से घर के बगीचे से पत्तियां लाने के लिए कहना
 - 4. कक्षा के साथ एक व्यावसायिक नर्सरी का दौरा करना

Question ID : 4410091614062
Option 1 ID : 4410096375066
Option 2 ID : 4410096375065
Option 3 ID : 4410096375068
Option 4 ID : 4410096375067

Q.12 एक शिक्षक अपशिष्ट प्रबंधन और पुनर्चक्रण को प्रदर्शित करने के लिए खाली प्लास्टिक की बोतलों और डिब्बों का उपयोग करता है। यह क्रियाकलाप मुख्य रूप से निम्नलिखित में से किसके उपयोग को दर्शाती है?

- Ans
- 1. परीक्षा-उन्मुख सामग्री
 - 2. निम्न लागत वाली शिक्षण-अधिगम सामग्री
 - 3. बहुमूल्य शिक्षण-अधिगम साधन
 - 4. पाठ्यपुस्तक-केंद्रित शिक्षण-साधन और संसाधन

Question ID : 4410091690069
Option 1 ID : 4410096666568
Option 2 ID : 4410096666567
Option 3 ID : 4410096666566
Option 4 ID : 4410096666569

Q.13 एक शिक्षिका अपने व्याख्या कौशल को परिष्कृत करने के लिए एक संक्षिप्त, संरचित सत्र में किसी अवधारणा को प्रस्तुत करने का अभ्यास करती है। यह अभ्यास किसका प्रतिनिधित्व करता है?

- Ans
- 1. पाठ्यचर्या संवर्धन कार्यशाला
 - 2. पूर्ण कक्षा निर्दर्शन
 - 3. सहपाठी समूह चर्चा
 - 4. सूक्ष्म शिक्षण अभ्यास

Question ID : 4410091570112
Option 1 ID : 4410096201452
Option 2 ID : 4410096201451
Option 3 ID : 4410096201449
Option 4 ID : 4410096201450

Q.14 शिक्षाशास्त्र में पाठ योजना का मूलभूत सिद्धांत क्या है?

- Ans
- 1. अधिगम परिणामों के आकलन से बचना
 - 2. केवल कठोर शिक्षण स्क्रिप्ट्स (scripts) का अनुपालन करना
 - 3. प्राप्त करने योग्य और मापने-योग्य लक्ष्य निर्धारित करना
 - 4. विद्यार्थियों की राय (input) लिए बिना योजनाएँ तैयार करना

Question ID : 4410091641209
Option 1 ID : 4410096481991
Option 2 ID : 4410096481990
Option 3 ID : 4410096481989
Option 4 ID : 4410096481992

Q.15 एक शैक्षणिक नेता के लिए किसी विद्यालय का अनूठे तरीके से नेतृत्व करने के लिए किन गुणों का पोषण करना आवश्यक है?

- Ans
- 1. सुसंगत नियम प्रवर्तन
 - 2. प्रशासनिक दक्षता
 - 3. पदानुक्रमित अनुदेशन
 - 4. नवान्वेषण की संस्कृति

Question ID : 4410091686208
Option 1 ID : 4410096651706
Option 2 ID : 4410096651707
Option 3 ID : 4410096651708
Option 4 ID : 4410096651709

Q.16 शिक्षकों के लिए ऐसी सामग्री विकसित करना क्यों महत्वपूर्ण है जो विद्यार्थियों को संदर्भ के आधार पर सहज और आत्मविश्वासी अनुभव कराने में सहायक हो?

- Ans 1. यह कौशल विकास को बढ़ावा देता है और विद्यार्थियों की सफलता की संभावना को बढ़ाता है।
 2. इससे शिक्षकों को विद्यार्थियों का मूल्यांकन शीघ्रता से करने में मदद मिलती है।
 3. इससे कक्षाओं का समय अपेक्षाकृत कम हो जाता है।
 4. इससे कक्षा में प्रौद्योगिकी की आवश्यकता कम हो जाती है।

Question ID : 4410091636468
 Option 1 ID : 4410096463766
 Option 2 ID : 4410096463767
 Option 3 ID : 4410096463765
 Option 4 ID : 4410096463768

Q.17 निम्नलिखित में से कौन-सा कथन प्राथमिक स्तर पर खोजपूर्ण अधिगम और संरचित अन्वेषण के बीच के अंतर को सर्वोत्तम रूप से दर्शाता है?

- Ans 1. खोजपूर्ण अधिगम विद्यार्थियों को स्वतंत्र रूप से जांच-पड़ताल और निष्कर्ष निकालने के लिए प्रोत्साहित करता है, जबकि संरचित अन्वेषण समाधान तक पहुंचने के लिए मार्गदर्शन प्रदान करता है।
 2. खोजपूर्ण अधिगम सभी प्रक्रियाएं प्रदान करता है, जबकि संरचित अन्वेषण में विद्यार्थियों को अपना रास्ता स्वयं खोजना होता है।
 3. दोनों विधियां पूरी तरह से वैज्ञानिक तथ्यों को स्मरण करने पर आधारित हैं।
 4. संरचित अन्वेषण समस्या-समाधान से बचती है, जबकि खोजपूर्ण अधिगम विशुद्ध रूप से सैद्धांतिक है।

Question ID : 4410091579655
 Option 1 ID : 4410096239914
 Option 2 ID : 4410096239913
 Option 3 ID : 4410096239915
 Option 4 ID : 4410096239916

Q.18 एक विद्यालय विद्यार्थियों के लिए विदेशी विश्वविद्यालयों के ऑनलाइन पाठ्यक्रम शुरू करता है। यह उदाहरण निम्नलिखित में से किसके प्रभाव को दर्शाता है?

- Ans 1. शिक्षा में वैश्वीकरण
 2. विद्यालय के नियमों का उदारीकरण
 3. खेलों का निजीकरण
 4. पाठ्यक्रम पर प्रतिबंध

Question ID : 4410091690712
 Option 1 ID : 4410096669019
 Option 2 ID : 4410096669018
 Option 3 ID : 4410096669020
 Option 4 ID : 4410096669021

Q.19 प्राथमिक विद्यार्थियों के लिए अंग्रेजी पाठ की योजना बनाने समय, एक शिक्षक श्रवण बोध कौशल (listening comprehension skill) विकसित करने के लिए सर्वोत्तम रूप से ICT का उपयोग किस प्रकार कर सकता है?

- Ans
- 1. शब्दावली के लिए डिजिटल फ्लैशकार्ड का अभ्यास करके
 - 2. स्मार्टबोर्ड पर मूक एनिमेटेड वीडियो देखकर
 - 3. ऐप पर ऑडियो कहानियों को बोध प्रश्नावली (comprehension quiz) के साथ शामिल करके
 - 4. श्रुतलेखन को सही करने के लिए, मुख्य रूप से डिजिटल वर्तनी और व्याकरण चेकर का उपयोग करके

Question ID : 4410091614264
Option 1 ID : 4410096375876
Option 2 ID : 4410096375875
Option 3 ID : 4410096375874
Option 4 ID : 4410096375873

Q.20 जब लेखन का उद्देश्य सुसंगत अभिव्यक्ति हो, परंतु आकलन केवल पाठ्यपुस्तक से प्राप्त जानकारी को याद रखने का परीक्षण करता हो, तो किस प्रकार की विभ्रान्ति उत्पन्न होती है?

- Ans
- 1. संगत व्याकरणिक नियमों से संबंधित
 - 2. विद्यार्थियों की आवश्यकता की तुलना में औपचारिक विवरण से संबंधित
 - 3. कौशल विकास की तुलना में पाठ्य-सामग्री के अध्यापन से संबंधित
 - 4. शब्दावली नियंत्रण की तुलना में पाठ्य-सामग्री से संबंधित

Question ID : 4410091558846
Option 1 ID : 4410096157769
Option 2 ID : 4410096157772
Option 3 ID : 4410096157771
Option 4 ID : 4410096157770

Section : Discipline5

Q.1 किन अशक्तताओं को अधिक होने वाली और मुख्य रूप से हल्की अशक्तताओं के रूप में वर्णित किया गया है?

- Ans
- 1. संवेगात्मक विकार और असाधारण प्रतिभा
 - 2. दृष्टि असमर्थता और श्रवण असमर्थता
 - 3. शारीरिक अशक्तता और स्वलीनता
 - 4. अधिगम अशक्तता और वाक्-भाषा संबंधी अशक्तता

Question ID : 4410091606709
Option 1 ID : 4410096345823
Option 2 ID : 4410096345820
Option 3 ID : 4410096345822
Option 4 ID : 4410096345821

Q.2 संसाधन आवंटन की योजना बनाते समय, एक जिला अधिकारी जेंडर संबंधी असमानताओं को कम करने के लिए विभिन्न आवश्यकताओं पर विचार करता है। समग्र शिक्षा प्रावधानों के आधार पर, कौन-सा आवंटन विशिष्ट आवश्यकता वाली बालिकाओं को प्रत्यक्ष सहायता प्रदान करेगा?

- Ans
- 1. अतिरिक्त क्रीड़ा-स्थल का निर्माण करना
 - 2. शिक्षकों के लिए निःशुल्क दोपहर का भोजन उपलब्ध कराना
 - 3. बालकों के लिए विज्ञान मेलों का निधियन करना
 - 4. CWSN बालिकाओं के लिए अध्ययनवृत्ति प्रदान करना

Question ID : 4410091633955
Option 1 ID : 4410096453910
Option 2 ID : 4410096453912
Option 3 ID : 4410096453913
Option 4 ID : 4410096453911

Q.3 विद्यार्थी-शिक्षक अंतःक्रियाएँ किस प्रकार विद्यालयों में जेंडर पूर्वाग्रह को पुनः उत्पन्न कर सकती हैं?

- Ans
- 1. सभी विद्यार्थियों के लिए समान अवसर सुनिश्चित करके
 - 2. जेंडर रूढ़िवादिता को खुलकर चुनौती देकर
 - 3. लगातार जेंडर-तटस्थ भाषा का प्रयोग करके
 - 4. विज्ञान कक्षाओं में लड़कों पर अधिक ध्यान देकर

Question ID : 4410091639003
Option 1 ID : 4410096473579
Option 2 ID : 4410096473580
Option 3 ID : 4410096473578
Option 4 ID : 4410096473577

Q.4 'सामान्य रूप से सुनने (hearing)' के अलावा 'ध्यान से सुनने (listening)' के लिए और क्या आवश्यक होता है?

- Ans
- 1. ध्यान से सुनने के लिए केवल पृष्ठभूमि रव की उपेक्षा करना आवश्यक होता है।
 - 2. ध्यान से सुनने के लिए सुनी हुई बात को दोहराना आवश्यक होता है।
 - 3. ध्यान से सुनने के लिए भाषण के प्रति तुरंत प्रतिक्रिया की आवश्यकता होती है।
 - 4. ध्यान से सुनने के लिए सुनी जा रही बात को समझना आवश्यक होता है।

Question ID : 4410091662399
Option 1 ID : 4410096562909
Option 2 ID : 4410096562908
Option 3 ID : 4410096562910
Option 4 ID : 4410096562907

Q.5 रचनावादी-उन्मुख गणित कक्षा-कक्ष में, विद्यार्थियों की गलतियों को _____ माना जाता है।

- Ans
- 1. सुधारात्मक अनुशासनात्मक कार्रवाई की आवश्यकता वाला व्यवहार
 - 2. अवधारणा वृद्धि के लिए महत्वहीन माना जाने वाला कारक
 - 3. सीमित अधिगम प्रगति का संकेतक
 - 4. समग्र अधिगम प्रक्रिया में आवश्यक चरण

Question ID : 4410091550517
Option 1 ID : 4410096124529
Option 2 ID : 4410096124530
Option 3 ID : 4410096124527
Option 4 ID : 4410096124528

Q.6 निम्नलिखित में से कौन-सा, आगमनात्मक तर्क (inductive reasoning) को सटीक रूप से निरूपित करता है?

- Ans
- 1. यदि $A = B$ और $B = C$ हो, तो $A = C$ होगा।
 - 2. यदि बारिश होती है, तो जमीन गीली हो जाती है; बारिश हो रही है; इसलिए जमीन गीली है।
 - 3. सभी स्तनधारियों में फेफड़े होते हैं; कुत्ता भी एक स्तनधारी है, इसलिए उसमें भी फेफड़े होते हैं।
 - 4. बहुत से कौवों को काले रंग में देखकर यह निष्कर्ष निकालना कि सभी कौवे काले होते हैं।

Question ID : 4410091572496
Option 1 ID : 4410096210914
Option 2 ID : 4410096210915
Option 3 ID : 4410096210912
Option 4 ID : 4410096210913

Q.7 बौद्धिक अशक्तता या संवेगात्मक विक्रोभ के कारण उत्पन्न होने वाली अधिगम की समस्याओं से अधिगम अशक्तता किस प्रकार भिन्न है?

- Ans
- 1. अधिगम अशक्तता श्रवण हानि का परिणाम है
 - 2. अधिगम अशक्तता सदैव संवेगात्मक विक्रोभ के कारण उत्पन्न होती है
 - 3. अधिगम अशक्तता तंत्रिका-आधारित प्रसंस्करण संबंधी समस्या है
 - 4. अधिगम अशक्तता पर्यावरणीय हानियों के कारण उत्पन्न होती है

Question ID : 4410091606615
Option 1 ID : 4410096345459
Option 2 ID : 4410096345457
Option 3 ID : 4410096345456
Option 4 ID : 4410096345458

Q.8 कक्षा 12 में, विद्यार्थियों से निम्नलिखित में से किससे निष्कर्ष निकालने की अपेक्षा की जाती है?

- Ans
- 1. ग्राफ निर्देशांक से सटीक मानों को पढ़ना
 - 2. इकाई रूपांतरण सूत्रों का स्मरण करना
 - 3. सरल पुनरावर्ती प्रतिरूपों की पहचान करना
 - 4. नमूना परिणामों का विश्लेषण और व्याख्या करना

Question ID : 4410091609466
Option 1 ID : 4410096356780
Option 2 ID : 4410096356782
Option 3 ID : 4410096356783
Option 4 ID : 4410096356781

Q.9 गणित में क्रियाकलाप-आधारित अधिगम को सबसे प्रभावी तरीके से प्रदर्शित करने के लिए कौन-सा कार्य उपयुक्त है?

- Ans
- 1. कक्षा की वस्तुओं को मापें
 - 2. ज्यामिति चार्ट ड्रॉ करें
 - 3. संख्या कार्डों को क्रमबद्ध करें
 - 4. आकृति मॉडल बनाएँ

Question ID : 4410091635713
Option 1 ID : 4410096460839
Option 2 ID : 4410096460842
Option 3 ID : 4410096460841
Option 4 ID : 4410096460840

Q.10 एक शिक्षक विद्यार्थियों को गणित का उपयोग करके वास्तविक जीवन की बजट संबंधी समस्या को हल करने के लिए कहता है। यह गतिविधि गणितीय ज्ञान के किस परिप्रेक्ष्य को सर्वोत्तम रूप से दर्शाती है?

- Ans
- 1. रीतिवादी परिप्रेक्ष्य
 - 2. व्यवहारवादी परिप्रेक्ष्य
 - 3. अनुभववादी परिप्रेक्ष्य
 - 4. प्लेटोवादी परिप्रेक्ष्य

Question ID : 4410091669991
Option 1 ID : 4410096590804
Option 2 ID : 4410096590806
Option 3 ID : 4410096590807
Option 4 ID : 4410096590805

Q.11 निम्नलिखित में से कौन-सा, दिव्यांगजनों के लिए UDID पोर्टल की एक विशेषता है?

- Ans
- 1. राशन कार्ड और अन्य सार्वजनिक लाभ स्वतः प्राप्त करना
 - 2. ड्राइविंग लाइसेंस और लर्नर परमिट के लिए ऑनलाइन आवेदन करना
 - 3. विश्वविद्यालय में प्रवेश और शैक्षिक कार्यक्रमों के लिए रजिस्टर करना
 - 4. आवेदन की स्थिति को ट्रैक करना और रिन्यूअल के लिए अनुरोध करना

Question ID : 4410091603551
Option 1 ID : 4410096333403
Option 2 ID : 4410096333401
Option 3 ID : 4410096333402
Option 4 ID : 4410096333400

Q.12 निम्नलिखित में से कौन-सा, विद्यालयों में जेंडर आधारित अभिवृत्ति है?

- Ans
- 1. विद्यालय प्रबंधन द्वारा लड़कियों को कभी भी शारीरिक गतिविधियों में भाग लेने के लिए नहीं कहा जाता है।
 - 2. शिक्षक, लड़कियों को सजावट और लड़कों को फर्नीचर स्थानांतरित करने जैसे कार्य सौंपते हैं।
 - 3. विद्यालय में किए जाने वाले सभी कार्यों के लिए लड़कों और लड़कियों दोनों के साथ समान व्यवहार किया जाता है।
 - 4. सभी विषयों में अच्छा प्रदर्शन करने के लिए शिक्षकों द्वारा सदैव लड़कों की प्रशंसा की जाती है।

Question ID : 4410091582018
Option 1 ID : 4410096249339
Option 2 ID : 4410096249336
Option 3 ID : 4410096249337
Option 4 ID : 4410096249338

Q.13 आख्यानों (narratives) के सारांशीकरण को बढ़ावा देने वाले लेखन कार्य, मुख्य रूप से किस कौशल युग्म को सबसे प्रभावी ढंग से एकीकृत करते हैं?

- Ans
- 1. पठन और लेखन
 - 2. श्रवण और पठन
 - 3. बोलना और श्रवण
 - 4. लेखन और याद करना

Question ID : 4410091550443
Option 1 ID : 4410096124232
Option 2 ID : 4410096124231
Option 3 ID : 4410096124233
Option 4 ID : 4410096124234

Q.14 वैज्ञानिक ज्ञान सृजन में निगमनात्मक तर्कणा पर कारण-और-प्रभाव संबंध को किस प्रकार प्रयुक्त किया जाता है?

- Ans
- 1. बिना प्रमाण के निष्कर्ष के अभिधारण द्वारा
 - 2. एक प्राक्कल्पना के परीक्षण और परिणामी घटना के अवलोकन द्वारा
 - 3. प्रतिरूपों को खोजने के लिए असंबंधित घटनाओं के परीक्षण द्वारा
 - 4. विशिष्ट आँकड़ा बिंदुओं से सामान्यीकरण बनाकर

Question ID : 4410091639407
Option 1 ID : 4410096475191
Option 2 ID : 4410096475189
Option 3 ID : 4410096475192
Option 4 ID : 4410096475190

Q.15 अधिगम प्रभाव के संदर्भ में, कौन-सी विशेषता दृश्य-श्रव्य शिक्षण सामग्री को विशुद्ध रूप से दृश्य सामग्री से पृथक करती है?

- Ans
- 1. शिक्षार्थियों की कल्पना पर विशेष ध्यान
 - 2. लिखित भाषा पर अधिक बल
 - 3. कई इंद्रियों का एक साथ उद्दीपन
 - 4. केवल शिक्षक के कथन पर निर्भरता

Question ID : 4410091603145
Option 1 ID : 4410096331777
Option 2 ID : 4410096331776
Option 3 ID : 4410096331778
Option 4 ID : 4410096331779

Q.16 निम्नलिखित में से कौन-सा, विज्ञान में निगमनात्मक तर्क का सर्वोत्तम वर्णन करता है?

- Ans
- 1. सामान्य वैज्ञानिक सिद्धांतों को बनाने के लिए पैटर्न का प्रेक्षण करना
 - 2. बिना किसी व्याख्या के डेटा रिकॉर्ड करना
 - 3. सामान्य सिद्धांतों या वादों से विशिष्ट निष्कर्ष निकालना
 - 4. पुनरावर्ती प्रयोगों के माध्यम से परिकल्पनाओं का परीक्षण करना

Question ID : 4410091551114
Option 1 ID : 4410096126701
Option 2 ID : 4410096126702
Option 3 ID : 4410096126700
Option 4 ID : 4410096126699

Q.17 कक्षाओं में एकीकृत विज्ञान किट का प्राथमिक उद्देश्य क्या है?

- Ans 1. व्यावहारिक अनुभव प्रदान करना
 2. विद्यार्थी-शिक्षक अंतःक्रिया को कम करना
 3. विद्यालय पुस्तकालय संसाधनों को बदलना
 4. स्थैतिक व्याख्यान नोट्स उपलब्ध करना

Question ID : 4410091635724
 Option 1 ID : 4410096460883
 Option 2 ID : 4410096460886
 Option 3 ID : 4410096460885
 Option 4 ID : 4410096460884

Q.18 LSRW की अवधारणा मुख्य रूप से किस मूलभूत सुग्राही प्रक्रिया के माध्यम से क्रमिक कौशल विकास पर बल देती है?

- Ans 1. उत्पादक दक्षताओं से पहले श्रवण क्षमता विकास
 2. लेखन में प्रभुत्व जो सभी भाषागत अन्योन्यक्रियाओं को प्रारम्भ करता है
 3. इनपुट बोधन के चरणों को छोड़कर बोलने को प्राथमिकता देना
 4. पठन का प्रभुत्व जो सम्प्रेषण का आधार स्थापित करता है

Question ID : 4410091564614
 Option 1 ID : 4410096180042
 Option 2 ID : 4410096180044
 Option 3 ID : 4410096180041
 Option 4 ID : 4410096180043

Q.19 एक विद्यालय रियायती साइकिल परिवहन और परिसर में शिशुगृह केन्द्रों को कार्यान्वित करता है, जिसका मुख्य लक्ष्य बालिका शिक्षा में आने वाली किन दो प्रमुख बाधाओं को दूर करना है?

- Ans 1. संज्ञानात्मक और पैतृक
 2. मनोवृत्तिगत और आर्थिक
 3. शारीरिक और सामाजिक
 4. पाठ्यचर्या और शैक्षिक

Question ID : 4410091551664
 Option 1 ID : 4410096129294
 Option 2 ID : 4410096129291
 Option 3 ID : 4410096129292
 Option 4 ID : 4410096129293

Q.20 निम्नलिखित में से कौन-सा, अपपठन (Dyslexia) का एक विशिष्ट लक्षण है?

- Ans
- 1. स्थानिक दिशा और अभिविन्यास के बारे में अपर्याप्त जागरूकता
 - 2. मूल अंकगणितीय संक्रियाओं के नियमों में भ्रम
 - 3. पढ़ने के दौरान अक्षरों या शब्दों का विपर्यासन
 - 4. दी गई सीमाओं के भीतर सफाई से रंग भरने में कठिनाई

Question ID : 4410091548398

Option 1 ID : 4410096116298

Option 2 ID : 4410096116297

Option 3 ID : 4410096116299

Option 4 ID : 4410096116296

