



GOVT. OF NCT OF DELHI
Delhi Subordinate Services Selection Board
FC-18, Institutional Area, Karkardooma, Delhi - 110092.
www.dsssb.delhigovt.nic.in

Participant ID	[REDACTED]
Participant Name	[REDACTED]
Test Center Name	Aadarsh Pariksha Kendra CENTER C - Gate No 2 - Noida Sector 64
Test Date	23/02/2026
Test Time	5:00 PM - 7:00 PM
Subject	Assistant Teacher Primary

Section : General Intelligence and Reasoning Ability

Q.1 C, O का भाई है। R, T की बहन है। Y, T का पुत्र है। T, O की पत्नी है। Y का C से क्या संबंध है?

- Ans
- 1. पिता
 - 2. भाई का पुत्र
 - 3. भाई
 - 4. बहन का पुत्र

Question ID : 4410091614524
Option 1 ID : 4410096376911
Option 2 ID : 4410096376909
Option 3 ID : 4410096376912
Option 4 ID : 4410096376910

Adda247

Adda247

Test Prime

ALL EXAMS, ONE SUBSCRIPTION



1,00,000+
Mock Tests



**Personalised
Report Card**



**Unlimited
Re-Attempt**



600+
Exam Covered



25,000+ Previous
Year Papers



500%
Refund



ATTEMPT FREE MOCK NOW

Q.2 L, A, Y, E, R और S एक ही इमारत की छह अलग-अलग मंजिलों पर रहते हैं। इमारत की सबसे निचली मंजिल का क्रमांक 1 है, उससे ऊपर वाली मंजिल का क्रमांक 2 है, और इसी तरह सबसे ऊपरी मंजिल का क्रमांक 6 है।
Y सबसे ऊपरी मंजिल पर रहता है। Y और S के बीच केवल तीन लोग रहते हैं। E, S से नीचे किसी मंजिल पर रहता है। A किसी सम संख्या वाली मंजिल पर रहता है। L किसी विषम संख्या वाली मंजिल पर रहता है, लेकिन पाँचवीं मंजिल पर नहीं।
R और S के बीच कितने लोग रहते हैं?

- Ans
- 1. चार
 - 2. एक
 - 3. तीन
 - 4. दो

Question ID : 4410091618900
Option 1 ID : 4410096394475
Option 2 ID : 4410096394472
Option 3 ID : 4410096394474
Option 4 ID : 4410096394473

Q.3 एक निश्चित तर्क का अनुसरण करने पर, 7 का संबंध 20 से है। समान तर्क का अनुसरण करने पर, 47 का संबंध 60 से है। समान तर्क का अनुसरण करने पर, 17 का संबंध निम्नलिखित में से किससे है? (नोट: संख्याओं को उनके घटक अंकों में तोड़े बिना संक्रियाएँ केवल पूर्ण संख्याओं पर की जानी चाहिए। उदाहरण के लिए, 13 लीजिए - 13 पर संक्रियाएँ, जैसे 13 में जोड़ना/घटाना/गुणा करना, की जा सकती हैं। 13 को 1 और 3 में तोड़ना तथा फिर 1 और 3 पर गणितीय संक्रियाएँ करने की अनुमति नहीं है।)

- Ans
- 1. 25
 - 2. 30
 - 3. 21
 - 4. 27

Question ID : 441009552631
Option 1 ID : 4410092165839
Option 2 ID : 4410092165841
Option 3 ID : 4410092165838
Option 4 ID : 4410092165840

Q.4 यदि '+' और '-' को आपस में बदल दिया जाए तथा 'x' और '÷' को आपस में बदल दिया जाए, तो निम्नलिखित समीकरण में '?' के स्थान पर क्या आएगा?
 $718 - 263 \div 387 \times 129 + 283 \div 288 \times 72 = ?$

- Ans
- 1. 573
 - 2. 375
 - 3. 735
 - 4. 537

Question ID : 441009554690
Option 1 ID : 4410092174074
Option 2 ID : 4410092174077
Option 3 ID : 4410092174075
Option 4 ID : 4410092174076

Q.5 निम्नलिखित श्रृंखला का संदर्भ लें और नीचे दिए गए प्रश्न का उत्तर दें। गिनती केवल बाएँ से दाएँ की जानी है। (सभी संख्याएँ केवल एकल-अंकीय संख्याएँ हैं)।
(बाएँ) 6 3 8 4 5 6 8 5 4 7 5 6 5 8 1 4 2 3 4 6 3 9 2 8 4 7 1 9 8 6 4 6 5 5 6 (दाएँ)
ऐसे कितने सम अंक हैं जिनमें से प्रत्येक के ठीक पहले एक पूर्ण वर्ग अंक है और ठीक बाद एक सम अंक है?

- Ans
- 1. एक
 - 2. तीन से अधिक
 - 3. तीन
 - 4. दो

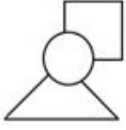
Question ID : 441009784839
Option 1 ID : 4410093093360
Option 2 ID : 4410093093359
Option 3 ID : 4410093093362
Option 4 ID : 4410093093361

Q.6 Q, U, I, L, T और S एक ही इमारत की छह अलग-अलग मंजिलों पर रहते हैं। इमारत की सबसे निचली मंजिल का क्रमांक 1 है, उसके ऊपर वाली मंजिल का क्रमांक 2 है, और इसी तरह सबसे ऊपरी मंजिल का क्रमांक 6 है।
T और I के बीच केवल दो लोग रहते हैं। L और S के बीच भी केवल दो लोग रहते हैं। L के ऊपर कोई नहीं रहता। I, S के नीचे लेकिन U के ऊपर रहता है। Q के नीचे कितने लोग रहते हैं?

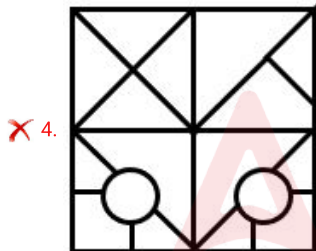
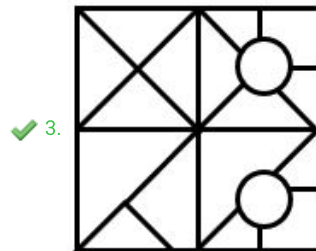
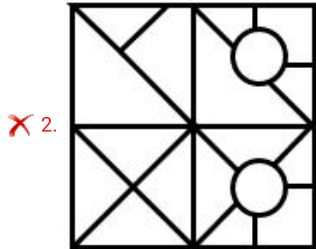
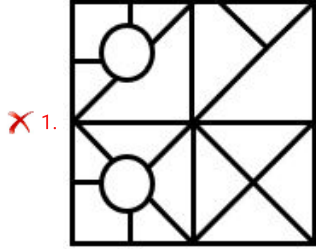
- Ans
- 1. चार
 - 2. तीन
 - 3. एक
 - 4. दो

Question ID : 4410091518904
Option 1 ID : 4410095998873
Option 2 ID : 4410095998872
Option 3 ID : 4410095998870
Option 4 ID : 4410095998871

Q.7 उस विकल्प का चयन कीजिए जिसमें दी गई आकृति अंतर्निहित है (आकृति को घुमाने की अनुमति नहीं है)।



Ans



Question ID : 441009906464
 Option 1 ID : 4410093579667
 Option 2 ID : 4410093579664
 Option 3 ID : 4410093579665
 Option 4 ID : 4410093579666

Q.8 अंग्रेजी वर्णमाला क्रम के आधार पर, निम्नलिखित चार अक्षर-समूहों में से तीन एक निश्चित तरीके से समान हैं और इस प्रकार एक गुप बनाते हैं। कौन-सा अक्षर-समूह उस गुप से संबंधित नहीं है? (नोट: असंगत अक्षर-समूह, व्यंजनों/स्वरों की संख्या या उनकी स्थिति पर आधारित नहीं है।)

- Ans
- 1. OJP
 - 2. UMK
 - 3. XSY
 - 4. SNT

Question ID : 441009776846
Option 1 ID : 4410093061388
Option 2 ID : 4410093061387
Option 3 ID : 4410093061390
Option 4 ID : 4410093061389

Q.9 निम्नलिखित श्रृंखला का संदर्भ लीजिए और प्रश्न का उत्तर दीजिए। (सभी संख्याएँ केवल एक-अंकीय संख्याएँ हैं। गणना केवल बाएँ से दाएँ की जानी है।)
(बाएँ) 6 9 5 6 9 6 3 4 6 7 8 9 1 1 3 7 1 7 7 1 5 (दाएँ)
ऐसे कितने सम अंक हैं जिनके ठीक पहले एक सम अंक और ठीक बाद में एक विषम अंक है?

- Ans
- 1. चार
 - 2. दो
 - 3. तीन
 - 4. एक

Question ID : 4410091618778
Option 1 ID : 4410096393987
Option 2 ID : 4410096393985
Option 3 ID : 4410096393986
Option 4 ID : 4410096393984

Q.10 निम्नलिखित संख्या श्रृंखला का संदर्भ लीजिए तथा दिए गए प्रश्न का उत्तर दीजिए। सभी संख्याएँ केवल एक-अंकीय संख्याएँ हैं। गिनती केवल बाएँ से दाएँ की जानी है।

(बाएँ)
4 8 2 7 3 9 8 5 3 9 4 1 4 8 9 8 3 8 5 6 4 8 4 5
8 4 6 (दाएँ)

ऐसी कितनी सम संख्याएँ हैं, जिनमें से प्रत्येक से ठीक पहले एक विषम संख्या है तथा ठीक बाद में एक सम संख्या है?

- Ans
- 1. 2
 - 2. 5
 - 3. 4
 - 4. 3

Question ID : 441009790492
Option 1 ID : 4410093115969
Option 2 ID : 4410093115970
Option 3 ID : 4410093115968
Option 4 ID : 4410093115967

Q.11 एक निश्चित कूट भाषा में, 'FRUIT' को 'RFWTI' के रूप में कूटबद्ध किया जाता है और 'WATER' को 'AWVRE' के रूप में कूटबद्ध किया जाता है। उसी भाषा में 'HONEY' को किस प्रकार कूटबद्ध किया जाएगा?

- Ans
- 1. HOPEZ
 - 2. OHPYE
 - 3. HPQYE
 - 4. OHQEZ

Question ID : 4410091422352
Option 1 ID : 4410095618317
Option 2 ID : 4410095618314
Option 3 ID : 4410095618316
Option 4 ID : 4410095618315

Q.12 अंग्रेजी वर्णमाला क्रम के आधार पर दी गई श्रृंखला में ? के स्थान पर क्या आना चाहिए?

JHNK PNTQ VTZW BZFC ?

- Ans
- 1. HFLI
 - 2. HILJ
 - 3. HFRT
 - 4. HILF

Question ID : 4410091614440
Option 1 ID : 4410096376577
Option 2 ID : 4410096376578
Option 3 ID : 4410096376580
Option 4 ID : 4410096376579

Q.13 उस विकल्प आकृति का चयन कीजिए जिसमें दी गई आकृति उसके भाग के रूप में अंतर्निहित है।
(घुमाने की अनुमति नहीं है)



Ans

✓ 1.



✗ 2.



✗ 3.



✗ 4.



Question ID : 4410091614474

Option 1 ID : 4410096376716

Option 2 ID : 4410096376713

Option 3 ID : 4410096376714

Option 4 ID : 4410096376715

Q.14 बीना अपनी कक्षा में ऊपर से 15वें और नीचे से दूसरे स्थान पर है। उसकी कक्षा में कुल कितने विद्यार्थी हैं?

Ans ✗ 1. 15

✓ 2. 16

✗ 3. 20

✗ 4. 18

Question ID : 4410091614397

Option 1 ID : 4410096376405

Option 2 ID : 4410096376406

Option 3 ID : 4410096376408

Option 4 ID : 4410096376407

Q.15 अंग्रेजी वर्णमाला क्रम पर आधारित एक निश्चित तरीके से, AZAC का संबंध FEFH से है। इसी प्रकार, NMNP का संबंध SRSU से है। समान तर्क के आधार पर, HGHJ का संबंध निम्नलिखित में से किससे है?

- Ans
- 1. MLLO
 - 2. MKLO
 - 3. MLMO
 - 4. MMLU

Question ID : 441009779055
Option 1 ID : 4410093070226
Option 2 ID : 4410093070225
Option 3 ID : 4410093070223
Option 4 ID : 4410093070224

Q.16 दी गई श्रृंखला में '?' के स्थान पर क्या आना चाहिए?

96 141 178 207 228 ?

- Ans
- 1. 246
 - 2. 239
 - 3. 253
 - 4. 241

Question ID : 441009176389
Option 1 ID : 441009697479
Option 2 ID : 441009697482
Option 3 ID : 441009697480
Option 4 ID : 441009697481

Q.17 सात व्यक्ति, R, O, A, M, I, N और G, एक पंक्ति में उत्तर की ओर अभिमुख होकर बैठे हैं। N के बाईं ओर केवल दो व्यक्ति बैठे हैं। N और A के बीच केवल तीन व्यक्ति बैठे हैं। I, N के दाईं ओर दूसरे स्थान पर बैठा है। I और M के बीच केवल दो व्यक्ति बैठे हैं। G, O के दाईं ओर किसी स्थान पर लेकिन R के बाईं ओर किसी स्थान पर बैठा है। G के दाईं ओर कितने व्यक्ति बैठे हैं?

- Ans
- 1. तीन
 - 2. चार
 - 3. दो
 - 4. एक

Question ID : 4410091518814
Option 1 ID : 4410095998536
Option 2 ID : 4410095998537
Option 3 ID : 4410095998535
Option 4 ID : 4410095998534

Q.18 अंग्रेजी वर्णमाला क्रम के आधार पर, निम्नलिखित चार में से तीन किसी निश्चित तरीके से एक समान हैं और इस प्रकार एक ग्रुप बनाते हैं। कौन-सा उस ग्रुप से संबंधित नहीं है?
(नोट: असंगत अक्षर-समूह, अक्षर समूह में व्यंजनों/स्वरों की संख्या या उनकी स्थिति पर आधारित नहीं है)

- Ans
- 1. OUR
 - 2. TZV
 - 3. JPM
 - 4. CIF

Question ID : 441009785451
Option 1 ID : 4410093095810
Option 2 ID : 4410093095807
Option 3 ID : 4410093095809
Option 4 ID : 4410093095808

Q.19 यह प्रश्न नीचे दी गई तीन अंकों वाली पांच संख्याओं पर आधारित है।
(बाएँ) 287 846 241 726 468 (दाएँ)

यदि प्रत्येक सम संख्या में 3 और प्रत्येक विषम संख्या में 2 जोड़ दिया जाए, तो इस प्रकार निर्मित कितनी संख्याएँ 3 से विभाज्य होंगी?

- Ans
- 1. एक
 - 2. तीन
 - 3. दो
 - 4. चार

Question ID : 441009794349
Option 1 ID : 4410093131395
Option 2 ID : 4410093131397
Option 3 ID : 4410093131396
Option 4 ID : 4410093131398

Q.20 यदि '+' और '-' को परस्पर बदल दिया जाए तथा 'x' और '÷' को परस्पर बदल दिया जाए, तो निम्नांकित समीकरण में '?' के स्थान पर क्या आएगा?
 $32 \times 4 - 8 + 6 \div 2 = ?$

- Ans
- 1. 6
 - 2. 8
 - 3. 4
 - 4. 5

Question ID : 4410091609150
Option 1 ID : 4410096355518
Option 2 ID : 4410096355519
Option 3 ID : 4410096355516
Option 4 ID : 4410096355517

Q.1 आर्थिक वृद्धि के लिए मानव पूंजी क्यों महत्वपूर्ण है?

- Ans 1. नवाचार और उत्पादकता को गति प्रदान करने के लिए
 2. खाद्य उत्पादन को बढ़ावा देने के लिए
 3. विदेशी सहायता कम करने के लिए
 4. जनसंख्या वृद्धि के लिए

Question ID : 441009226865
Option 1 ID : 441009888289
Option 2 ID : 441009888288
Option 3 ID : 441009888291
Option 4 ID : 441009888290

Q.2 किसी चुंबक पर सबसे प्रबल चुंबकीय बल कहाँ होता है?

- Ans 1. ध्रुवों पर
 2. केवल एक सिरे पर
 3. सर्वत्र समान रूप से
 4. केंद्र पर

Question ID : 441009513449
Option 1 ID : 4410092008846
Option 2 ID : 4410092008847
Option 3 ID : 4410092008845
Option 4 ID : 4410092008844

Q.3 RESET कार्यक्रम में भाग लेने के लिए सेवानिवृत्त एथलीटों की आयु पात्रता सीमा क्या है?

- Ans 1. 20-50 वर्ष
 2. 22-45 वर्ष
 3. 18-60 वर्ष
 4. 25-55 वर्ष

Question ID : 441009256253
Option 1 ID : 441009998873
Option 2 ID : 441009998874
Option 3 ID : 441009998872
Option 4 ID : 441009998875

Q.4 1991 के बाद से व्यापार नीति सुधारों का उद्देश्य अंतरराष्ट्रीय बाजारों में भारतीय वस्तुओं की प्रतिस्पर्धात्मकता को किस प्रकार से प्रभावित करना है?

- Ans
- 1. व्यापार पर सरकारी नियंत्रण बढ़ाकर
 - 2. टैरिफ और मात्रात्मक प्रतिबंध बढ़ाकर
 - 3. टैरिफ कम करके और मात्रात्मक प्रतिबंध हटाकर
 - 4. विदेशी निवेश को कम करके

Question ID : 441009226686
Option 1 ID : 441009887581
Option 2 ID : 441009887579
Option 3 ID : 441009887580
Option 4 ID : 441009887582

Q.5 भारत के संविधान के अनुच्छेद 243C के अनुसार, निम्नलिखित में से कौन-सा कथन पंचायतों की संरचना और निर्वाचन के संबंध में सही है?

- Ans
- 1. पंचायत निर्वाचन क्षेत्रों का गठन केवल भौगोलिक सीमाओं के आधार पर किया जाता है, न कि जनसंख्या के आधार पर।
 - 2. जहाँ तक व्यवहार्य हो, पंचायतों में जनसंख्या और सीटों की संख्या का अनुपात एकसमान होना चाहिए।
 - 3. केवल ज़िला स्तर पर पंचायत प्रत्यक्ष निर्वाचन द्वारा भरी जाती है; अन्य स्तरों पर नियुक्ति की जाती है।
 - 4. राज्यपाल स्थानीय प्रशासनिक निकायों से पंचायतों के सभी सदस्यों को नामित करता है।

Question ID : 441009672044
Option 1 ID : 4410092642277
Option 2 ID : 4410092642276
Option 3 ID : 4410092642275
Option 4 ID : 4410092642274

Q.6 अप्रैल 2025 में, DRDO द्वारा Su-30 MKI से परीक्षण किए गए लंबी दूरी के ग्लाइड बम (Long-Range Glide Bomb) का नाम क्या है?

- Ans
- 1. गरुड़
 - 2. त्रिशूल
 - 3. गौरव
 - 4. वजीरा

Question ID : 441009207127
Option 1 ID : 441009814459
Option 2 ID : 441009814462
Option 3 ID : 441009814461
Option 4 ID : 441009814460

Q.7 हड़प्पा वास्तुकला से संबंधित प्रसिद्ध महास्नानागार किस पुरातात्विक स्थल पर स्थित है?

- Ans
- 1. हड़प्पा
 - 2. कालीबंगा
 - 3. मोहनजो-दड़ो
 - 4. लोथल

Question ID : 441009749125
Option 1 ID : 4410092950329
Option 2 ID : 4410092950331
Option 3 ID : 4410092950330
Option 4 ID : 4410092950328

Q.8 वर्ष 2025 में, प्रवीण कुमार को किस पैरालंपिक खेल में उनकी उपलब्धियों के लिए मेजर ध्यानचंद खेल रत्न पुरस्कार से सम्मानित किया गया?

- Ans
- 1. बैडमिंटन
 - 2. ऊँची कूद
 - 3. भाला फेंक
 - 4. शूटिंग

Question ID : 4410091561077
Option 1 ID : 4410096166480
Option 2 ID : 4410096166479
Option 3 ID : 4410096166478
Option 4 ID : 4410096166481

Q.9 भारतीय संविधान के अनुच्छेद 352 के अनुसार, आपातकाल की घोषणा निम्नलिखित में से किसकी जिम्मेदारी है, यदि उनको यह समाधान हो जाता है कि गंभीर आपात विद्यमान है, जिससे युद्ध या बाह्य आक्रमण या सशस्त्र विद्रोह के कारण भारत या उसके राज्यक्षेत्र के किसी भाग की सुरक्षा संकट में है?

- Ans
- 1. भारत के रक्षा मंत्री
 - 2. भारत के रक्षा सचिव
 - 3. भारत के उपराष्ट्रपति
 - 4. भारत के राष्ट्रपति

Question ID : 441009323500
Option 1 ID : 4410091260180
Option 2 ID : 4410091260181
Option 3 ID : 4410091260179
Option 4 ID : 4410091260178

Q.10 3 मई 2025 को की गयी घोषणा के अनुसार, निम्नलिखित में से किस देश ने वित्त मंत्री सलेम बिन ब्रेक (Salem Bin Braik) को नया प्रधानमंत्री नियुक्त किया है?

- Ans 1. यमन
 2. लेबनान
 3. सीरिया
 4. जॉर्डन

Question ID : 441009321036
Option 1 ID : 4410091250407
Option 2 ID : 4410091250408
Option 3 ID : 4410091250406
Option 4 ID : 4410091250405

Q.11 निम्नलिखित में से किस शहर ने जनवरी 2025 में 18वें प्रवासी भारतीय दिवस का आयोजन किया था?

- Ans 1. भुवनेश्वर
 2. भोपाल
 3. अहमदाबाद
 4. हैदराबाद

Question ID : 441009246768
Option 1 ID : 441009961360
Option 2 ID : 441009961359
Option 3 ID : 441009961358
Option 4 ID : 441009961361

Q.12 कार्बनिक निर्जलीकारक की सहायता से, प्रति सेकंड H_2CO_3 के कितने अणुओं का उत्पादन किया जा सकता है?

- Ans 1. 600,000
 2. 6,000
 3. 600
 4. 60,000

Question ID : 441009512799
Option 1 ID : 4410092006325
Option 2 ID : 4410092006323
Option 3 ID : 4410092006322
Option 4 ID : 4410092006324

Q.13 बर्ली चित्रकला परंपरा की उत्पत्ति किस भारतीय राज्य से हुई है?

- Ans
- 1. ओडिशा
 - 2. राजस्थान
 - 3. पश्चिम बंगाल
 - 4. महाराष्ट्र

Question ID : 441009749219
Option 1 ID : 4410092950716
Option 2 ID : 4410092950714
Option 3 ID : 4410092950717
Option 4 ID : 4410092950715

Q.14 निम्नलिखित में से किस शासक ने राम मोहन राय को "राजा" की उपाधि प्रदत्त की थी?

- Ans
- 1. बहादुर शाह जफर
 - 2. लॉर्ड डलहौजी
 - 3. लॉर्ड विलियम बेंटिक
 - 4. अकबर द्वितीय

Question ID : 4410091457533
Option 1 ID : 4410095758443
Option 2 ID : 4410095758442
Option 3 ID : 4410095758440
Option 4 ID : 4410095758441

Q.15 विशाल भारतीय मरुस्थल में कौन-सी नदी मौसमी रूप से मौजूद रहती है और उसे अल्पकालिक माना जाता है?

- Ans
- 1. चंबल
 - 2. यमुना
 - 3. लूनी
 - 4. ब्यास

Question ID : 441009353594
Option 1 ID : 4410091380604
Option 2 ID : 4410091380602
Option 3 ID : 4410091380605
Option 4 ID : 4410091380603

Q.16 भारतीय खनिज वर्ष पुस्तक 2022 के अनुसार, निम्नलिखित में से कौन-सा राज्य भारत में बॉक्साइट का अग्रणी उत्पादक है?

- Ans
- 1. झारखंड
 - 2. ओडिशा
 - 3. कर्नाटक
 - 4. महाराष्ट्र

Question ID : 441009372069
Option 1 ID : 4410091454016
Option 2 ID : 4410091454017
Option 3 ID : 4410091454018
Option 4 ID : 4410091454019

Q.17 निम्नलिखित में से किस मामले में अरबिंदो घोष को दोषमुक्त किया गया था?

- Ans
- 1. काकोरी षड्यंत्र (Kakori Conspiracy)
 - 2. कर्ज़न वायली (Curzon Wylie) की हत्या
 - 3. हावड़ा गैंग मामला (Howrah Gang Case)
 - 4. अलीपुर बम मामला (Alipore Bomb Case)

Question ID : 441009316865
Option 1 ID : 4410091233945
Option 2 ID : 4410091233942
Option 3 ID : 4410091233943
Option 4 ID : 4410091233944

Q.18 रंगपुर और दिनाजपुर, जिन्हें 1783 के रंगपुर किसान विद्रोह के दौरान ब्रिटिश भू-राजस्व नीतियों के कारण विभिन्न अवैध करों का सामना करना पड़ा, निम्नलिखित में से किस क्षेत्र में स्थित थे?

- Ans
- 1. बिहार
 - 2. बंगाल
 - 3. अवध
 - 4. उड़ीसा

Question ID : 4410091551161
Option 1 ID : 4410096126893
Option 2 ID : 4410096126891
Option 3 ID : 4410096126892
Option 4 ID : 4410096126894

Q.19 निम्नलिखित में से कौन-सा कथन भारतीय संविधान में राज्यपाल के लिए निर्धारित उपबंधों को सही ढंग से निरूपित करता है?

- Ans
- 1. संसद राज्यपाल के अधीनस्थ किसी भी प्राधिकारी को कोई भी कार्य निर्बंधन नहीं कर सकती।
 - 2. राज्यपाल राज्य की कार्यपालिका शक्ति का प्रयोग केवल मुख्यमंत्री के माध्यम से ही करता है।
 - 3. राज्य की कार्यपालिका शक्ति राज्यपाल में निहित है और वह स्वयं या अधीनस्थ अधिकारियों के द्वारा इसका प्रयोग कर सकता है।
 - 4. राज्यपाल राज्य में सर्वोच्च विधि निर्मात्री प्राधिकारी है।

Question ID : 441009672149
Option 1 ID : 4410092642693
Option 2 ID : 4410092642690
Option 3 ID : 4410092642691
Option 4 ID : 4410092642692

Q.20 विशाल भारतीय मैदानों के निम्नलिखित में से कौन-सा क्षेत्र, नवीन जलोढ़ (खादर) की उपस्थिति के लिए जाना जाता है?

- Ans
- 1. राजस्थान का मैदान
 - 2. यमुना और गंगा नदियों के किनारे के नदीतट क्षेत्र
 - 3. पंजाब का मैदान
 - 4. गंगा डेल्टा

Question ID : 441009360900
Option 1 ID : 4410091409598
Option 2 ID : 4410091409601
Option 3 ID : 4410091409599
Option 4 ID : 4410091409600

Section : Arithmetical and Numerical Ability

Q.1 एक व्यक्ति ₹29,300 का ऋण 50% वार्षिक चक्रवृद्धि ब्याज पर लेता है जबकि ब्याज वार्षिक रूप से संयोजित होता है। प्रत्येक वर्ष के अंत में, वह ₹2,500 का आंशिक भुगतान करता है। ऐसी दो किस्तों के बाद भी उस पर कितनी राशि बकाया है?

- Ans
- 1. ₹59,757
 - 2. ₹59,752
 - 3. ₹59,675
 - 4. ₹59,696

Question ID : 441009897808
Option 1 ID : 4410093545305
Option 2 ID : 4410093545303
Option 3 ID : 4410093545302
Option 4 ID : 4410093545304

Q.2 एक घनाभाकार डिब्बे की लंबाई 10.5cm, चौड़ाई 12cm और ऊंचाई 6cm है। घनाभाकार डिब्बे का पार्श्व पृष्ठीय क्षेत्रफल ज्ञात कीजिए।

- Ans
- 1. 270 cm^2
 - 2. 362 cm^2
 - 3. 462 cm^2
 - 4. 352 cm^2

Question ID : 441009621338
Option 1 ID : 4410092439484
Option 2 ID : 4410092439485
Option 3 ID : 4410092439486
Option 4 ID : 4410092439487

Q.3 90 m और 97 m लंबाई की दो ट्रेनें विपरीत दिशाओं में क्रमशः 10 m/s और 7 m/s की चाल से चल रही हैं। ट्रेनों द्वारा एक-दूसरे को पार करने में लिया गया समय ज्ञात कीजिए।

- Ans
- 1. 13 सेकंड
 - 2. 10 सेकंड
 - 3. 11 सेकंड
 - 4. 12 सेकंड

Question ID : 4410095437
Option 1 ID : 44100921545
Option 2 ID : 44100921542
Option 3 ID : 44100921543
Option 4 ID : 44100921544

Q.4 10 cm ऊंचाई वाले त्रिभुज का क्षेत्रफल 60 cm^2 है। त्रिभुज के आधार और ऊंचाई के बीच का अंतर (cm में) कितना है?

- Ans
- 1. 2
 - 2. 3
 - 3. 1
 - 4. 5

Question ID : 44100918146
Option 1 ID : 44100972395
Option 2 ID : 44100972396
Option 3 ID : 44100972398
Option 4 ID : 44100972397

Q.5 22 संख्याओं का औसत 7 निकाला गया। बाद में पाया गया कि दो संख्याएँ 19 और 17 गलती से 10 और 4 के रूप में लिखी गई थीं। सही औसत ज्ञात कीजिए।

- Ans
- 1. 9
 - 2. 6
 - 3. 8
 - 4. 10

Question ID : 441009544141
Option 1 ID : 4410092131962
Option 2 ID : 4410092131961
Option 3 ID : 4410092131960
Option 4 ID : 4410092131963

Q.6 एक दुकान एक जैकेट पर 15% और 10% की दो क्रमिक छूट प्रदान करती है। यदि अंकित मूल्य ₹2,000 है, तो दोनों छूट लागू होने के बाद विक्रय मूल्य ज्ञात कीजिए। इसके अतिरिक्त, अंकित मूल्य पर प्रभावी छूट प्रतिशत ज्ञात कीजिए।

- Ans
- 1. ₹1,530 और 23.5%
 - 2. ₹1,590 और 25.3%
 - 3. ₹1,590 और 22.5%
 - 4. ₹1,530 और 22.5%

Question ID : 4410091622416
Option 1 ID : 4410096408438
Option 2 ID : 4410096408437
Option 3 ID : 4410096408439
Option 4 ID : 4410096408436

Q.7 उस शंकु का संपूर्ण पृष्ठीय क्षेत्रफल ज्ञात कीजिए, जिसकी त्रिज्या 1.4 cm और आयतन 9.856 cm^3 है। ($\pi = \frac{22}{7}$ का उपयोग कीजिए)

- Ans
- 1. 14.25 cm²
 - 2. 19.62 cm²
 - 3. 22.36 cm²
 - 4. 28.16 cm²

Question ID : 4410099136
Option 1 ID : 44100936296
Option 2 ID : 44100936297
Option 3 ID : 44100936298
Option 4 ID : 44100936299

Q.8 एक परिवार के क्रमशः 40 kg, 49 kg, 57 kg, 76 kg और 37 kg वजन वाले पांच सदस्यों का औसत वजन ज्ञात कीजिए।

- Ans 1. 51.8 kg
 2. 50.8 kg
 3. 53.8 kg
 4. 52.8 kg

Question ID : 441009582037
Option 1 ID : 4410092283274
Option 2 ID : 4410092283276
Option 3 ID : 4410092283277
Option 4 ID : 4410092283275

Q.9 दो धावक, P और Q, 600 m लंबाई के एक वृत्ताकार ट्रैक पर एक ही बिंदु से एक साथ विपरीत दिशाओं में दौड़ना शुरू करते हैं। P की चाल 9 m/s और Q की चाल 6 m/s है। तीसरी बार मिलने के बाद, P बिना रुके तुरंत अपनी दिशा बदल लेता है। दौड़ शुरू होने के कितने समय (सेकंड में) बाद वे एक-दूसरे से पाँचवीं बार मिलेंगे?

- Ans 1. 200 सेकंड
 2. 520 सेकंड
 3. 320 सेकंड
 4. 120 सेकंड

Question ID : 4410091622243
Option 1 ID : 4410096407762
Option 2 ID : 4410096407760
Option 3 ID : 4410096407761
Option 4 ID : 4410096407763

Q.10 X, Y और Z किसी कार्य को क्रमशः 40 दिन, 48 दिन और 60 दिन में पूरा कर सकते हैं। यदि वे तीनों मिलकर कार्य करते हैं, तो उन्हें कार्य को पूरा करने में कितने दिन लगेंगे?

- Ans 1. 16 दिन
 2. 14 दिन
 3. 15 दिन
 4. 18 दिन

Question ID : 44100920006
Option 1 ID : 44100979755
Option 2 ID : 44100979753
Option 3 ID : 44100979754
Option 4 ID : 44100979756

Q.11 एक नल एक टंकी को 9 घंटे में भरता है। दूसरा नल पूरी भरी टंकी को 12 घंटे में खाली कर देता है। यदि टंकी शुरू में खाली हो और दोनों नल एक साथ खोल दिए जाएं, तो टंकी का तीन-चौथाई भाग भरने में कितना समय (घंटों में) लगेगा?

Ans 1. 27

2. 108

3. 81

4. 54

Question ID : 441009897247

Option 1 ID : 4410093543058

Option 2 ID : 4410093543061

Option 3 ID : 4410093543060

Option 4 ID : 4410093543059

Q.12 नितिन दो वस्तुओं को ₹6,314 प्रति वस्तु की दर से बेचता है, जिसमें पूरे लेन-देन में न तो लाभ होता है और न ही हानि होती है। यदि एक वस्तु 75% लाभ पर बेची गई, तो दूसरी वस्तु कितने प्रतिशत हानि पर बेची गई?

Ans 1. 30%

2. 32%

3. 27%

4. 29%

Question ID : 441009895075

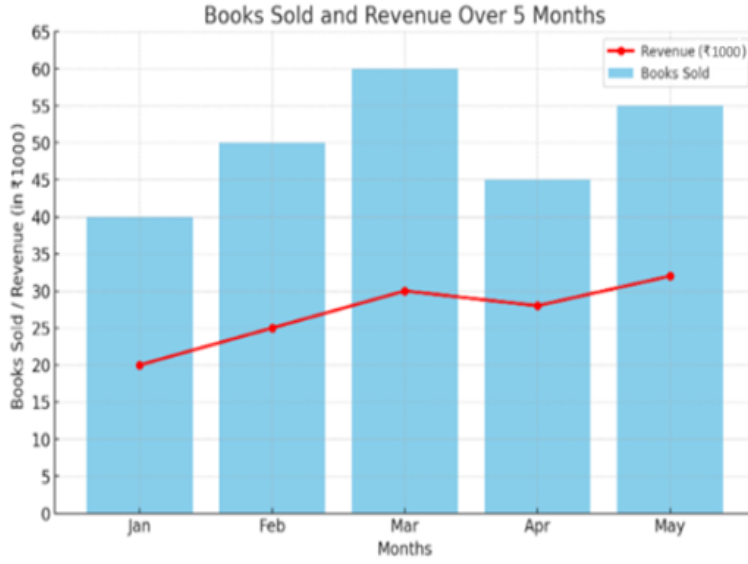
Option 1 ID : 4410093534370

Option 2 ID : 4410093534373

Option 3 ID : 4410093534371

Option 4 ID : 4410093534372

Q.13 दिए गए मिश्रित ग्राफ को पढ़िए और निम्नलिखित प्रश्न का उत्तर दीजिए।



फरवरी से मार्च तक बेची गई पुस्तकों में परिवर्तन और राजस्व में परिवर्तन (₹1000 में) ज्ञात कीजिए।

संदर्भ:-

Books Sold and Revenue Over 5 Months= 5 माह में बेची गई पुस्तकें और राजस्व

Revenue = राजस्व

Books Sold= बेची गई पुस्तकें

Books Sold/Revenue (in ₹1000) = बेची गई पुस्तकें/राजस्व (₹1000 में)

Months= माह

Jan = जनवरी

Feb = फरवरी

Mar = मार्च

Apr = अप्रैल

May = मई

- Ans
- 1. पुस्तकों में परिवर्तन = 15 और राजस्व में परिवर्तन = 15
 - 2. पुस्तकों में परिवर्तन = 20 और राजस्व में परिवर्तन = 5
 - 3. पुस्तकों में परिवर्तन = 10 और राजस्व में परिवर्तन = 10
 - 4. पुस्तकों में परिवर्तन = 10 और राजस्व में परिवर्तन = 5

Question ID : 4410091528776
 Option 1 ID : 4410096038253
 Option 2 ID : 4410096038254
 Option 3 ID : 4410096038252
 Option 4 ID : 4410096038251

Q.14 सचिन का मासिक वेतन ₹13,000 है। वह मकान किराए पर ₹4,500 और बिलों पर ₹1,500 खर्च करता है; शेष राशि उसकी मासिक बचत है। यदि वह अपने जन्मदिन के महीने में अपने जन्मदिन समारोह पर पूरी मासिक बचत खर्च कर देता है, तो एक वर्ष में उसकी बचत (₹ में) कितनी होगी?

- Ans
- 1. 84,000
 - 2. 70,000
 - 3. 77,000
 - 4. 63,000

Question ID : 441009194531
Option 1 ID : 441009766072
Option 2 ID : 441009766073
Option 3 ID : 441009766071
Option 4 ID : 441009766074

Q.15 ₹671 की धनराशि को P, Q और R के बीच इस प्रकार बांटा जाना है कि P के हिस्से का 3 गुना, Q के हिस्से का 4 गुना और R के हिस्से का 7 गुना, सभी बराबर हों। R का हिस्सा कितना है?

- Ans
- 1. ₹112
 - 2. ₹122
 - 3. ₹132
 - 4. ₹221

Question ID : 44100936476
Option 1 ID : 441009145417
Option 2 ID : 441009145418
Option 3 ID : 441009145419
Option 4 ID : 441009145420

Q.16 एक दुकानदार ₹1,200 में किताबों का एक सेट खरीदता है। वह उनमें से तीन-चौथाई को 20% लाभ पर और शेष को 10% हानि पर बेचता है। समग्र लाभ या हानि प्रतिशत ज्ञात कीजिए।

- Ans
- 1. 8.75% लाभ
 - 2. 12.5% लाभ
 - 3. 5% लाभ
 - 4. 10% हानि

Question ID : 441009162226
Option 1 ID : 4410096407692
Option 2 ID : 4410096407694
Option 3 ID : 4410096407695
Option 4 ID : 4410096407693

Q.17 ₹12,000 की धनराशि को अब्दुल, कादिर और रहमान के बीच इस प्रकार वितरित किया जाता है कि कादिर और रहमान को मिलाकर जितनी धनराशि मिलती है, उस धनराशि का $\frac{2}{3}$ हिस्सा अब्दुल को मिलता है तथा अब्दुल और कादिर को मिलाकर जितनी धनराशि मिलती है, उस धनराशि का $\frac{1}{2}$ हिस्सा रहमान को मिलता है। रहमान का हिस्सा ज्ञात कीजिए।

- Ans
- 1. ₹4,500
 - 2. ₹4,800
 - 3. ₹3,200
 - 4. ₹4,000

Question ID : 44100944762
 Option 1 ID : 441009178279
 Option 2 ID : 441009178278
 Option 3 ID : 441009178277
 Option 4 ID : 441009178276

Q.18 $\frac{0.2 \times 0.02 \times 0.002}{1.4 \times 0.14 \times 0.014}$ को सरलीकृत कीजिए।

- Ans
- 1. $\frac{1}{347}$
 - 2. $\frac{1}{348}$
 - 3. $\frac{1}{341}$
 - 4. $\frac{1}{343}$

Question ID : 44100910966
 Option 1 ID : 44100943684
 Option 2 ID : 44100943685
 Option 3 ID : 44100943682
 Option 4 ID : 44100943683

Q.19 $\left(\frac{11}{27}\right) \div \left(\frac{5}{6} \times \frac{12}{15} + \frac{4}{9}\right) + \frac{7}{6} \div \frac{30}{13}$ of $\frac{13}{6}$ का मान ज्ञात कीजिए।

- Ans
- 1. $\frac{7}{30}$
 - 2. $\frac{1}{30}$
 - 3. $\frac{1}{15}$
 - 4. $\frac{7}{15}$

Question ID : 441009912369
 Option 1 ID : 4410093603727
 Option 2 ID : 4410093603730
 Option 3 ID : 4410093603729
 Option 4 ID : 4410093603728

Q.20 उधार दी गई ₹3500 की राशि पर 8% वार्षिक ब्याज दर से 2 वर्षों का साधारण ब्याज (₹ में) ज्ञात कीजिए।

- Ans
- 1. 520
 - 2. 500
 - 3. 560
 - 4. 600

Question ID : 441009852714
 Option 1 ID : 4410093363831
 Option 2 ID : 4410093363830
 Option 3 ID : 4410093363828
 Option 4 ID : 4410093363829

Section : English Language and Comprehension

Q.1 The underlined word in the given sentence is misspelt. Choose the correct spelling of the word to rectify the sentence.

The policy aims to promote transperancy in all financial transactions.

- Ans
- 1. transperency
 - 2. transeperancy
 - 3. transparency
 - 4. transparancy

Question ID : 4410091555165
Option 1 ID : 4410096143284
Option 2 ID : 4410096143285
Option 3 ID : 4410096143283
Option 4 ID : 4410096143286

Q.2 Choose the correct proverb for the underlined phrase.

Rohan lost one opportunity because he kept delaying, proving that opportunities don't wait for anyone.

- Ans
- 1. Time and tide wait for none
 - 2. No pain, no gain
 - 3. Great oaks from little acorns grow
 - 4. Where there is a will, there is a way

Question ID : 4410091580358
Option 1 ID : 4410096242772
Option 2 ID : 4410096242774
Option 3 ID : 4410096242775
Option 4 ID : 4410096242773

Q.3 Select the most appropriate synonym of the underlined word in the given sentence.

He gave the list containing miscellaneous items.

- Ans
- 1. expensive
 - 2. central
 - 3. various
 - 4. excellent

Question ID : 4410091529518
Option 1 ID : 4410096041159
Option 2 ID : 4410096041161
Option 3 ID : 4410096041160
Option 4 ID : 4410096041162

Q.4 Select the most appropriate option to fill in the blank.

His impact _____ beyond individual achievement.

- Ans
- 1. suggests
 - 2. adjusts
 - 3. includes
 - 4. extends

Question ID : 4410091524597
Option 1 ID : 4410096021607
Option 2 ID : 4410096021610
Option 3 ID : 4410096021609
Option 4 ID : 4410096021608

Q.5 Substitute the underlined part of the following sentence by choosing the correct idiom from the given options.

It's a cause-and-effect dilemma where both things depend on each other: we can't improve the product without user feedback, but we can't get users without improving the product.

- Ans
- 1. chicken and egg situation
 - 2. tempest in a teacup
 - 3. double-edged sword
 - 4. blessing in disguise

Question ID : 4410091132083
Option 1 ID : 4410094463736
Option 2 ID : 4410094463739
Option 3 ID : 4410094463738
Option 4 ID : 4410094463737

Q.6 Identify the antonym of the highlighted word used in the sentence.
The editor removed several superfluous details from the article to make the argument clearer and more direct

- Ans
- 1. fragile
 - 2. candid
 - 3. excessive
 - 4. necessary

Question ID : 4410091526871
Option 1 ID : 4410096030596
Option 2 ID : 4410096030597
Option 3 ID : 4410096030595
Option 4 ID : 4410096030594

Q.7 Choose the option that shows the same kind of relationship/connection as the given sentence.

The committee revised the proposal to address unforeseen issues.

- Ans
- 1. The student memorized the formula to solve the equations quickly.
 - 2. The actor rehearsed his lines before the final performance.
 - 3. The tourists visited the museum to explore historical artefacts.
 - 4. The artist repainted the mural after noticing subtle imperfections.

Question ID : 4410091526312

Option 1 ID : 4410096028368

Option 2 ID : 4410096028369

Option 3 ID : 4410096028367

Option 4 ID : 4410096028366

Q.8 Select the most appropriate article to fill in the blank. If no article is needed, select 'No article required'.

We crossed _____ Ganges River by boat at sunrise.

- Ans
- 1. a
 - 2. the
 - 3. an
 - 4. No article required

Question ID : 4410091113656

Option 1 ID : 4410094390623

Option 2 ID : 4410094390622

Option 3 ID : 4410094390624

Option 4 ID : 4410094390625

Q.9 In the given question, a statement divided into different segments is given. The first segment (A) is fixed, rearrange the other segments to form a coherent statement.

- (A) To foster a culture of innovation, the institute mandated
- (B) quarterly interdisciplinary workshops that encouraged risk-taking
- (C) seed funding for faculty-student collaborative projects
- (D) and mentorship programs linking novice researchers with seasoned experts
- (E) while preserving rigorous peer review for long-term initiatives

- Ans
- 1. ACBDE
 - 2. ABEDC
 - 3. ABCDE
 - 4. AEDCB

Question ID : 4410091518732

Option 1 ID : 4410095998207

Option 2 ID : 4410095998208

Option 3 ID : 4410095998206

Option 4 ID : 4410095998209

Q.10 Complete the sentence with the appropriate word.
The historian attempted to _____ the origins of the ancient manuscript.

- Ans
- 1. annotate
 - 2. assimilate
 - 3. ascertain
 - 4. confound

Question ID : 4410091553021
Option 1 ID : 4410096134402
Option 2 ID : 4410096134401
Option 3 ID : 4410096134400
Option 4 ID : 4410096134403

Q.11 Select the most appropriate option to fill in the blanks. If no articles are required, select the option 'No articles required'.

She bought _____ umbrella from _____ store near the station.

- Ans
- 1. an ; a
 - 2. No articles required
 - 3. an ; the
 - 4. the ; an

Question ID : 4410091087934
Option 1 ID : 4410094289264
Option 2 ID : 4410094289266
Option 3 ID : 4410094289263
Option 4 ID : 4410094289265

Q.12 A sentence has been broken into parts, which have been jumbled and marked as PQRST. Re-arrange all the parts to make a coherent sentence.
P) During the cultural festival, the performers
Q) that reflected the rich heritage
R) of various regions across the country
S) displayed a series of traditional dances
T) with such grace and precision

- Ans
- 1. PSQRT
 - 2. PSTQR
 - 3. QTSRP
 - 4. SPRTQ

Question ID : 4410091555137
Option 1 ID : 4410096143194
Option 2 ID : 4410096143192
Option 3 ID : 4410096143193
Option 4 ID : 4410096143191

Q.13 Complete the given sentence with the appropriate word.

The scientist carefully _____ the samples to avoid contamination.

- Ans
- 1. inflated
 - 2. handled
 - 3. calculated
 - 4. invented

Question ID : 4410091553019
Option 1 ID : 4410096134393
Option 2 ID : 4410096134394
Option 3 ID : 4410096134392
Option 4 ID : 4410096134395

Q.14 Rectify the sentence by selecting the correct spelling from the options.

The company will reimburse your travel expenses after submission of bills.

- Ans
- 1. reimburs
 - 2. reimburse
 - 3. reimburse
 - 4. reamburse

Question ID : 4410091129051
Option 1 ID : 4410094451751
Option 2 ID : 4410094451752
Option 3 ID : 4410094451750
Option 4 ID : 4410094451753

Q.15 Replace the underlined word segment with the appropriate one-word substitute.

She is a/an person who criticizes established beliefs and customs, often challenging traditional ideas in her discussions.

- Ans
- 1. mediator
 - 2. benefactor
 - 3. iconoclast
 - 4. conformist

Question ID : 4410091555266
Option 1 ID : 4410096143622
Option 2 ID : 4410096143621
Option 3 ID : 4410096143619
Option 4 ID : 4410096143620

Comprehension:

Read the passage carefully and answer the questions that follow.

Perhaps the environmental crisis at hand has not yet touched your life, but the time is shortly to come. Recent NASA reports of a 60 per cent loss of ozone over the Arctic provide an explanation for increased severity in the world's weather patterns that has only begun to affect us, whether directly or indirectly. The social, political and economic implications are difficult to imagine as our ozone layer continues to thin, forests disappear and desertification is occurring at an alarming rate. Today, almost 1 million acres of forest disappear each week. This alarming rate of deforestation is forcing many world economies to rethink their business and manufacturing practices. A 70 feet tree cut for its lumber takes 65 years to replace. A 70 feet bamboo cut for the market can be replaced in less than 3 months and bamboo is officially recognised as the world's fastest growing plant. Some species can grow 3 feet per day! Driven by the constantly growing consumer demand for environmentally friendly products, bamboo is gaining momentum as a reliable source of high quality and durable green building material over traditional non-sustainable products. Bamboo is known to produce 30 per cent more oxygen than a hardwood forest of comparable size.

SubQuestion No : 16

Q.16 According to the passage, why is the use of bamboo in building material gaining momentum?

- Ans**
- 1. Consumer demand for environment friendly products
 - 2. Due to desertification and climatic changes
 - 3. It is cheaper than iron.
 - 4. Changing trends in fashion industry

Question ID : 4410091524907
Option 1 ID : 4410096022828
Option 2 ID : 4410096022830
Option 3 ID : 4410096022827
Option 4 ID : 4410096022829

Comprehension:

Read the passage carefully and answer the questions that follow.

Perhaps the environmental crisis at hand has not yet touched your life, but the time is shortly to come. Recent NASA reports of a 60 per cent loss of ozone over the Arctic provide an explanation for increased severity in the world's weather patterns that has only begun to affect us, whether directly or indirectly. The social, political and economic implications are difficult to imagine as our ozone layer continues to thin, forests disappear and desertification is occurring at an alarming rate. Today, almost 1 million acres of forest disappear each week. This alarming rate of deforestation is forcing many world economies to rethink their business and manufacturing practices. A 70 feet tree cut for its lumber takes 65 years to replace. A 70 feet bamboo cut for the market can be replaced in less than 3 months and bamboo is officially recognised as the world's fastest growing plant. Some species can grow 3 feet per day! Driven by the constantly growing consumer demand for environmentally friendly products, bamboo is gaining momentum as a reliable source of high quality and durable green building material over traditional non-sustainable products. Bamboo is known to produce 30 per cent more oxygen than a hardwood forest of comparable size.

SubQuestion No : 17

Q.17 Select the most appropriate antonym of the given word.

Severity

- Ans
- 1. Wilderness
 - 2. Brightness
 - 3. Awareness
 - 4. Mildness

Question ID : 4410091524908

Option 1 ID : 4410096022833

Option 2 ID : 4410096022831

Option 3 ID : 4410096022832

Option 4 ID : 4410096022834

Comprehension:

Read the passage carefully and answer the questions that follow.

Perhaps the environmental crisis at hand has not yet touched your life, but the time is shortly to come. Recent NASA reports of a 60 per cent loss of ozone over the Arctic provide an explanation for increased severity in the world's weather patterns that has only begun to affect us, whether directly or indirectly. The social, political and economic implications are difficult to imagine as our ozone layer continues to thin, forests disappear and desertification is occurring at an alarming rate. Today, almost 1 million acres of forest disappear each week. This alarming rate of deforestation is forcing many world economies to rethink their business and manufacturing practices. A 70 feet tree cut for its lumber takes 65 years to replace. A 70 feet bamboo cut for the market can be replaced in less than 3 months and bamboo is officially recognised as the world's fastest growing plant. Some species can grow 3 feet per day! Driven by the constantly growing consumer demand for environmentally friendly products, bamboo is gaining momentum as a reliable source of high quality and durable green building material over traditional non-sustainable products. Bamboo is known to produce 30 per cent more oxygen than a hardwood forest of comparable size.

SubQuestion No : 18

Q.18 Select the most appropriate tone of the passage.

- Ans
- 1. Ironic
 - 2. Jovial
 - 3. Alarming
 - 4. Nostalgic

Question ID : 4410091524909
Option 1 ID : 4410096022838
Option 2 ID : 4410096022836
Option 3 ID : 4410096022835
Option 4 ID : 4410096022837

Comprehension:

Read the passage carefully and answer the questions that follow.

Perhaps the environmental crisis at hand has not yet touched your life, but the time is shortly to come. Recent NASA reports of a 60 per cent loss of ozone over the Arctic provide an explanation for increased severity in the world's weather patterns that has only begun to affect us, whether directly or indirectly. The social, political and economic implications are difficult to imagine as our ozone layer continues to thin, forests disappear and desertification is occurring at an alarming rate. Today, almost 1 million acres of forest disappear each week. This alarming rate of deforestation is forcing many world economies to rethink their business and manufacturing practices. A 70 feet tree cut for its lumber takes 65 years to replace. A 70 feet bamboo cut for the market can be replaced in less than 3 months and bamboo is officially recognised as the world's fastest growing plant. Some species can grow 3 feet per day! Driven by the constantly growing consumer demand for environmentally friendly products, bamboo is gaining momentum as a reliable source of high quality and durable green building material over traditional non-sustainable products. Bamboo is known to produce 30 per cent more oxygen than a hardwood forest of comparable size.

SubQuestion No : 19

Q.19 Select the most appropriate title for the passage.

- Ans**
- 1. Global Warming at Its Peak
 - 2. Bamboo-Most Reliable Material
 - 3. Dangers of Air and Land Pollution
 - 4. Transitional Practices in Textile Industry

Question ID : 4410091524910
Option 1 ID : 4410096022839
Option 2 ID : 4410096022842
Option 3 ID : 4410096022840
Option 4 ID : 4410096022841

Comprehension:

Read the passage carefully and answer the questions that follow.

Perhaps the environmental crisis at hand has not yet touched your life, but the time is shortly to come. Recent NASA reports of a 60 per cent loss of ozone over the Arctic provide an explanation for increased severity in the world's weather patterns that has only begun to affect us, whether directly or indirectly. The social, political and economic implications are difficult to imagine as our ozone layer continues to thin, forests disappear and desertification is occurring at an alarming rate. Today, almost 1 million acres of forest disappear each week. This alarming rate of deforestation is forcing many world economies to rethink their business and manufacturing practices. A 70 feet tree cut for its lumber takes 65 years to replace. A 70 feet bamboo cut for the market can be replaced in less than 3 months and bamboo is officially recognised as the world's fastest growing plant. Some species can grow 3 feet per day! Driven by the constantly growing consumer demand for environmentally friendly products, bamboo is gaining momentum as a reliable source of high quality and durable green building material over traditional non-sustainable products. Bamboo is known to produce 30 per cent more oxygen than a hardwood forest of comparable size.

SubQuestion No : 20

Q.20 Which of the following statements is not true in the context passage?

- Ans** ✓ 1. The author is promoting the use of hardwood lumber trees as a building material.
 ✗ 2. NASA has reported 60% loss of ozone over the Arctic.
 ✗ 3. Our planet is suffering from resource depletion and environmental crisis.
 ✗ 4. A 70 feet bamboo cut for market can be replaced in less than 3 months.

Question ID : 4410091524911
 Option 1 ID : 4410096022843
 Option 2 ID : 4410096022846
 Option 3 ID : 4410096022844
 Option 4 ID : 4410096022845

Section : Hindi Language and Comprehension

Q.1 निम्नलिखित वाक्य में रेखांकित शब्द के पर्यायवाची शब्द का चयन दिए गए विकल्पों में से कीजिए-
 'पक्षी' अपने पंखों के सहारे आकाश में उड़ता है।

- Ans** ✗ 1. अग
 ✗ 2. रग
 ✓ 3. खग
 ✗ 4. मग

Question ID : 4410091618504
 Option 1 ID : 4410096392888
 Option 2 ID : 4410096392889
 Option 3 ID : 4410096392887
 Option 4 ID : 4410096392890

Q.2 निम्नलिखित में से सही क्रम वाले वाक्य का चयन कीजिए-

- Ans 1. कर्नाटक में कुंचिकल,गोकाक और जोग जैसे कई सुंदर जलप्रपात प्राकृतिक सौंदर्य को बढ़ाते हैं।
 2. प्राकृतिक सौंदर्य को बढ़ाते हैं कर्नाटक में कुंचिकल,गोकाक और जोग जैसे कई सुंदर जलप्रपात ।
 3. कुंचिकल,गोकाक और जोग जैसे कई सुंदर जलप्रपात प्राकृतिक सौंदर्य को बढ़ाते हैं कर्नाटक में।
 4. कर्नाटक में प्राकृतिक सौंदर्य को बढ़ाते हैं कुंचिकल,गोकाक और जोग जैसे कई सुंदर जलप्रपात।

Question ID : 4410091546256
 Option 1 ID : 4410096107881
 Option 2 ID : 4410096107879
 Option 3 ID : 4410096107880
 Option 4 ID : 4410096107882

Q.3 निम्न में से 'एक पंथ दो काज' लोकोक्ति का सही अर्थ कौन है?

- Ans 1. भीतर से शत्रु ऊपर से मित्र
 2. एक काम से दूसरा काम हो जाना
 3. मिथ्या आडम्बर
 4. केवल बाह्य प्रदर्शन

Question ID : 4410091526594
 Option 1 ID : 4410096029494
 Option 2 ID : 4410096029495
 Option 3 ID : 4410096029497
 Option 4 ID : 4410096029496

Q.4 उसने मुझे निर्दयी बनने पर विवश किया ।
 उपर्युक्त रेखांकित शब्द का पर्यायवाची क्या होगा ?

- Ans 1. लाचार
 2. दुखी
 3. घायल
 4. बचाव

Question ID : 4410091624855
 Option 1 ID : 4410096417947
 Option 2 ID : 4410096417949
 Option 3 ID : 4410096417948
 Option 4 ID : 4410096417950

Q.5 दिए गए वाक्य के किस भाग में त्रुटि है?
पापी से पापी भी ईश्वर की कृपा का भागिदार बन जाता है।

- Ans
- 1. भी ईश्वर की
 - 2. बन जाता है।
 - 3. पापी से पापी
 - 4. कृपा का भागिदार

Question ID : 4410091618490
Option 1 ID : 4410096392832
Option 2 ID : 4410096392834
Option 3 ID : 4410096392831
Option 4 ID : 4410096392833

Q.6 'उतावला से बावला, धीरा से गंभीरा' लोकोक्ति का सही अर्थ क्या है ?

- Ans
- 1. अपने मन का मालिक हो जाना
 - 2. जल्दीबाजी में व्यक्ति पागल जैसा हो जाता है और धीरता में गंभीर बना रहता है।
 - 3. अपनी लघुता को विशिष्ट बनाकर प्रचारित करना
 - 4. खुशी से बावला जैसा व्यवहार करना

Question ID : 4410091629457
Option 1 ID : 4410096435917
Option 2 ID : 4410096435914
Option 3 ID : 4410096435915
Option 4 ID : 4410096435916

Q.7 "वर्षा होने पर लोग घर के भीतर_____ लगे।" रिक्त स्थान की पूर्ति उचित क्रिया-विशेषण से करें।

- Ans
- 1. सोने
 - 2. छिपने
 - 3. खेलने
 - 4. गाने

Question ID : 4410091288174
Option 1 ID : 4410095084559
Option 2 ID : 4410095084558
Option 3 ID : 4410095084560
Option 4 ID : 4410095084561

Q.8 "अंक भरना"- मुहावरे का क्या अर्थ है?

- Ans
- 1. डॉट कर सुधारना
 - 2. गले लगाना
 - 3. हृदय से दूर करना
 - 4. बीते समय को याद करना

Question ID : 4410091618282
Option 1 ID : 4410096391997
Option 2 ID : 4410096391998
Option 3 ID : 4410096391995
Option 4 ID : 4410096391996

Q.9 उपयुक्त क्रिया शब्द से वाक्य पूर्ण कीजिए।
'आखिर तुमने उसे _____ दिया।'

- Ans
- 1. बोलने
 - 2. कही
 - 3. बोलना
 - 4. कहती

Question ID : 4410091237811
Option 1 ID : 4410094884777
Option 2 ID : 4410094884778
Option 3 ID : 4410094884776
Option 4 ID : 4410094884779

Q.10 'घर के सभी बच्चे -----हैं' वाक्य के रिक्त स्थान के लिए सर्वाधिक उपयुक्त विशेषण शब्द क्या है?

- Ans
- 1. सोए
 - 2. बैठे
 - 3. छोटे
 - 4. खेलते

Question ID : 4410091186221
Option 1 ID : 4410094679088
Option 2 ID : 4410094679087
Option 3 ID : 4410094679089
Option 4 ID : 4410094679090

Q.11 निम्नांकित विकल्पों में से उचित विशेषण का चयन करके वाक्य पूर्ण करें-
अजन्ता की गुफाओं की दीवारों पर बनेचित्र सभी को आकर्षित करते हैं।

- Ans
- 1. सुगंधित
 - 2. सुंदर
 - 3. सुवासित
 - 4. भयानक

Question ID : 4410091256247
Option 1 ID : 4410094957887
Option 2 ID : 4410094957886
Option 3 ID : 4410094957888
Option 4 ID : 4410094957885

Q.12 मौर्य सम्राज्य में अशोक महान ने धर्मसत्ता पर जोर दिया।
वर्तनी की दृष्टि से दिए गए वाक्य के किस अंश में त्रुटि है?

- Ans
- 1. धर्मसत्ता पर
 - 2. अशोक महान ने
 - 3. जोर दिया
 - 4. मौर्य सम्राज्य में

Question ID : 4410091626825
Option 1 ID : 4410096425654
Option 2 ID : 4410096425653
Option 3 ID : 4410096425655
Option 4 ID : 4410096425652

Q.13 नीचे दिए गए वाक्य खंडों को सही क्रम में व्यवस्थित करें -

1. सवाल उठ
2. उसके मन
3. रहे थे
4. में कई

- Ans
- 1. 1234
 - 2. 1324
 - 3. 2413
 - 4. 2134

Question ID : 441009647601
Option 1 ID : 4410092544453
Option 2 ID : 4410092544451
Option 3 ID : 4410092544450
Option 4 ID : 4410092544452

Q.14 निम्नांकित विकल्पों में से उचित कारक चिह्न का चयन करके वाक्य पूर्ण करें-
वह शहर कपडा लाकर गाँव में बेचता है।

- Ans
- 1. की
 - 2. के
 - 3. से
 - 4. में

Question ID : 4410091184019
Option 1 ID : 4410094670099
Option 2 ID : 4410094670096
Option 3 ID : 4410094670098
Option 4 ID : 4410094670097

Q.15 पर्यावरण अनुसंधान जलवायु परिवर्तन समझने में सहायक है।
वर्तनी की दृष्टि से दिए गए वाक्य के किस अंश में त्रुटि है?

- Ans
- 1. सहायक है
 - 2. समझने में
 - 3. जलवायु परिवर्तन
 - 4. पर्यावरण अनुसंधान

Question ID : 4410091626829
Option 1 ID : 4410096425671
Option 2 ID : 4410096425670
Option 3 ID : 4410096425669
Option 4 ID : 4410096425668



Comprehension:

दिए गए गद्यांश को ध्यानपूर्वक पढ़कर पूछे गए प्रश्नों के सर्वाधिक उपयुक्त उत्तर वाले विकल्प को चुनकर लिखिए –

प्रसाद जी अपने युग की राष्ट्रीय भावनाओं को प्रतिबिम्बित करते थे। पर उनका इतिहास-बोध सिर्फ भावनात्मक नहीं था। भारतीय इतिहास का उनका ज्ञान बहुत गहरा था और उसके बारे में अपनी निर्मोह सत्यबोधक दृष्टि के चलते उनकी विचारणा बहुत मौलिक और स्वतंत्र थी। इस मामले में वे 'प्रियंभूयात्' के कतई कायल नहीं थे। वास्तविकता यह है कि लोकप्रिय भावनाओं का इस्तेमाल उन्होंने अपनी उस बेहद आत्मालोचनापूर्ण दृष्टि को प्रस्तुत करने के लिए ही किया। वे भारतीय जीवन ही नहीं, भारतीय आचरण के भी प्रखर द्रष्टा आलोचक थे। उनके नाटकों में हमें इतिहास का गौरव ही नहीं, उसकी कुंठा, त्रास, और ऊब का भी उतना ही हिलाने वाला साक्षात्कार मिलता है। उनके नाटकों की दुनिया में जो उथल-पुथल और हाहाकार है, वह सिर्फ घटना-चक्र में ही नहीं उनके पात्रों के अंतर्जीवन में भी है। उनके नाटकों में चरित्र अक्सर चरित्र से ज्यादा मनोवैज्ञानिक वृत्तियों और शक्तियों का प्रतिनिधित्व करने लगते हैं। यही वह सदाबहार, सदा प्रासंगिक जीवन है जो उनके नाट्य-लेखन की असली प्रेरणा है न कि एक तथाकथित अतीत के तथाकथित प्रसिद्ध नायक-नायिकाएँ।

SubQuestion No : 16

Q.16 निम्नलिखित कथनों में से कौन-सा सत्य है?

- Ans 1. उनके इतिहास-बोध में वैचारिकता का समावेश है।
2. उनका इतिहास-बोध उनकी युगीन दृष्टि का पोषक नहीं है।
3. प्रसादजी की रचनाओं में जड़ता विद्यमान है।
4. उनका लेखन ऐतिहासिक भावभूमि पर आधारित नहीं है।

Question ID : 4410091626124
Option 1 ID : 4410096422899
Option 2 ID : 4410096422900
Option 3 ID : 4410096422897
Option 4 ID : 4410096422898

Comprehension:

दिए गए गद्यांश को ध्यानपूर्वक पढ़कर पूछे गए प्रश्नों के सर्वाधिक उपयुक्त उत्तर वाले विकल्प को चुनकर लिखिए –

प्रसाद जी अपने युग की राष्ट्रीय भावनाओं को प्रतिबिम्बित करते थे। पर उनका इतिहास-बोध सिर्फ भावनात्मक नहीं था। भारतीय इतिहास का उनका ज्ञान बहुत गहरा था और उसके बारे में अपनी निर्मोह सत्यबोधक दृष्टि के चलते उनकी विचारणा बहुत मौलिक और स्वतंत्र थी। इस मामले में वे 'प्रियंब्रूयात्' के कतई कायल नहीं थे। वास्तविकता यह है कि लोकप्रिय भावनाओं का इस्तेमाल उन्होंने अपनी उस बेहद आत्मालोचनापूर्ण दृष्टि को प्रस्तुत करने के लिए ही किया। वे भारतीय जीवन ही नहीं, भारतीय आचरण के भी प्रखर द्रष्टा आलोचक थे। उनके नाटकों में हमें इतिहास का गौरव ही नहीं, उसकी कुंठा, त्रास, और ऊब का भी उतना ही हिलाने वाला साक्षात्कार मिलता है। उनके नाटकों की दुनिया में जो उथल-पुथल और हाहाकार है, वह सिर्फ घटना-चक्र में ही नहीं उनके पात्रों के अंतर्जीवन में भी है। उनके नाटकों में चरित्र अक्सर चरित्र से ज्यादा मनोवैज्ञानिक वृत्तियों और शक्तियों का प्रतिनिधित्व करने लगते हैं। यही वह सदाबहार, सदा प्रासंगिक जीवन है जो उनके नाट्य-लेखन की असली प्रेरणा है न कि एक तथाकथित अतीत के तथाकथित प्रसिद्ध नायक-नायिकाएँ।

SubQuestion No : 17

Q.17 'मौलिक' का विलोम शब्द क्या होगा?

- Ans
- 1. अप्रासंगिक
 - 2. जड़
 - 3. अमौलिक
 - 4. पुराना

Question ID : 4410091626125
Option 1 ID : 4410096422904
Option 2 ID : 4410096422903
Option 3 ID : 4410096422901
Option 4 ID : 4410096422902

Comprehension:

दिए गए गद्यांश को ध्यानपूर्वक पढ़कर पूछे गए प्रश्नों के सर्वाधिक उपयुक्त उत्तर वाले विकल्प को चुनकर लिखिए –

प्रसाद जी अपने युग की राष्ट्रीय भावनाओं को प्रतिबिम्बित करते थे। पर उनका इतिहास-बोध सिर्फ भावनात्मक नहीं था। भारतीय इतिहास का उनका ज्ञान बहुत गहरा था और उसके बारे में अपनी निर्मोह सत्यबोधक दृष्टि के चलते उनकी विचारणा बहुत मौलिक और स्वतंत्र थी। इस मामले में वे 'प्रियंभूयात्' के कतई कायल नहीं थे। वास्तविकता यह है कि लोकप्रिय भावनाओं का इस्तेमाल उन्होंने अपनी उस बेहद आत्मालोचनापूर्ण दृष्टि को प्रस्तुत करने के लिए ही किया। वे भारतीय जीवन ही नहीं, भारतीय आचरण के भी प्रखर द्रष्टा आलोचक थे। उनके नाटकों में हमें इतिहास का गौरव ही नहीं, उसकी कुंठा, त्रास, और ऊब का भी उतना ही हिलाने वाला साक्षात्कार मिलता है। उनके नाटकों की दुनिया में जो उथल-पुथल और हाहाकार है, वह सिर्फ घटना-चक्र में ही नहीं उनके पात्रों के अंतर्जीवन में भी है। उनके नाटकों में चरित्र अक्सर चरित्र से ज्यादा मनोवैज्ञानिक वृत्तियों और शक्तियों का प्रतिनिधित्व करने लगते हैं। यही वह सदाबहार, सदा प्रासंगिक जीवन है जो उनके नाट्य-लेखन की असली प्रेरणा है न कि एक तथाकथित अतीत के तथाकथित प्रसिद्ध नायक-नायिकाएँ।

SubQuestion No : 18

Q.18 प्रस्तुत अनुच्छेद का लक्ष्य क्या है?

- Ans
- 1. साहित्य के प्रवृत्तियों से अवगत कराना
 - 2. प्रसाद की ऐतिहासिक चेतना से परिचित कराना
 - 3. जड़ता को दिखाना
 - 4. प्रसाद के साहित्यिक अवदान से परिचित नहीं कराना

Question ID : 4410091626126
Option 1 ID : 4410096422907
Option 2 ID : 4410096422906
Option 3 ID : 4410096422908
Option 4 ID : 4410096422905

Comprehension:

दिए गए गद्यांश को ध्यानपूर्वक पढ़कर पूछे गए प्रश्नों के सर्वाधिक उपयुक्त उत्तर वाले विकल्प को चुनकर लिखिए –

प्रसाद जी अपने युग की राष्ट्रीय भावनाओं को प्रतिबिम्बित करते थे। पर उनका इतिहास-बोध सिर्फ भावनात्मक नहीं था। भारतीय इतिहास का उनका ज्ञान बहुत गहरा था और उसके बारे में अपनी निर्मोह सत्यबोधक दृष्टि के चलते उनकी विचारणा बहुत मौलिक और स्वतंत्र थी। इस मामले में वे 'प्रियंभूयात्' के कतई कायल नहीं थे। वास्तविकता यह है कि लोकप्रिय भावनाओं का इस्तेमाल उन्होंने अपनी उस बेहद आत्मालोचनापूर्ण दृष्टि को प्रस्तुत करने के लिए ही किया। वे भारतीय जीवन ही नहीं, भारतीय आचरण के भी प्रखर द्रष्टा आलोचक थे। उनके नाटकों में हमें इतिहास का गौरव ही नहीं, उसकी कुंठा, त्रास, और ऊब का भी उतना ही हिलाने वाला साक्षात्कार मिलता है। उनके नाटकों की दुनिया में जो उथल-पुथल और हाहाकार है, वह सिर्फ घटना-चक्र में ही नहीं उनके पात्रों के अंतर्जीवन में भी है। उनके नाटकों में चरित्र अक्सर चरित्र से ज्यादा मनोवैज्ञानिक वृत्तियों और शक्तियों का प्रतिनिधित्व करने लगते हैं। यही वह सदाबहार, सदा प्रासंगिक जीवन है जो उनके नाट्य-लेखन की असली प्रेरणा है न कि एक तथाकथित अतीत के तथाकथित प्रसिद्ध नायक-नायिकाएँ।

SubQuestion No : 19

Q.19 उक्त अवतरण का उपयुक्त शीर्षक क्या होगा ?

- Ans
- 1. छायावाद
 - 2. प्रसाद
 - 3. हिन्दी साहित्य
 - 4. प्रसाद के नाटकों में इतिहास-बोध

Question ID : 4410091626127
Option 1 ID : 4410096422910
Option 2 ID : 4410096422909
Option 3 ID : 4410096422912
Option 4 ID : 4410096422911

Comprehension:

दिए गए गद्यांश को ध्यानपूर्वक पढ़कर पूछे गए प्रश्नों के सर्वाधिक उपयुक्त उत्तर वाले विकल्प को चुनकर लिखिए –

प्रसाद जी अपने युग की राष्ट्रीय भावनाओं को प्रतिबिम्बित करते थे। पर उनका इतिहास-बोध सिर्फ भावनात्मक नहीं था। भारतीय इतिहास का उनका ज्ञान बहुत गहरा था और उसके बारे में अपनी निर्मोह सत्यबोधक दृष्टि के चलते उनकी विचारणा बहुत मौलिक और स्वतंत्र थी। इस मामले में वे 'प्रियंभूयात्' के कतई कायल नहीं थे। वास्तविकता यह है कि लोकप्रिय भावनाओं का इस्तेमाल उन्होंने अपनी उस बेहद आत्मालोचनापूर्ण दृष्टि को प्रस्तुत करने के लिए ही किया। वे भारतीय जीवन ही नहीं, भारतीय आचरण के भी प्रखर द्रष्टा आलोचक थे। उनके नाटकों में हमें इतिहास का गौरव ही नहीं, उसकी कुंठा, त्रास, और ऊब का भी उतना ही हिलाने वाला साक्षात्कार मिलता है। उनके नाटकों की दुनिया में जो उथल-पुथल और हाहाकार है, वह सिर्फ घटना-चक्र में ही नहीं उनके पात्रों के अंतर्जीवन में भी है। उनके नाटकों में चरित्र अक्सर चरित्र से ज्यादा मनोवैज्ञानिक वृत्तियों और शक्तियों का प्रतिनिधित्व करने लगते हैं। यही वह सदाबहार, सदा प्रासंगिक जीवन है जो उनके नाट्य-लेखन की असली प्रेरणा है न कि एक तथाकथित अतीत के तथाकथित प्रसिद्ध नायक-नायिकाएँ।

SubQuestion No : 20

Q.20 प्रसाद के नाटकों के चरित्र किसका प्रतिनिधित्व करते हैं?

- Ans 1. मनोवैज्ञानिक वृत्तियों और शक्तियों का
 2. साहित्य का
 3. अच्छाई का
 4. पात्रों का

Question ID : 4410091626128
 Option 1 ID : 4410096422915
 Option 2 ID : 4410096422914
 Option 3 ID : 4410096422913
 Option 4 ID : 4410096422916

Q.1 विद्यार्थियों में बढ़ती दुश्चिंता के कारण एक प्राथमिक विद्यालय बोर्ड अपनी अधिगम मूल्यांकन पद्धतियों की समीक्षा कर रहा है। RTE अधिनियम की धारा 29(2) के सिद्धांतों के अनुरूप पाठ्यचर्या मूल्यांकन प्रक्रिया को संरेखित करने के लिए, उन्हें किस सिद्धांत को लागू करने में प्राथमिकता देनी चाहिए?

- Ans
- 1. अनिवार्य मानकीकृत अंतिम परीक्षाएं
 - 2. व्यापक सतत मूल्यांकन
 - 3. पाठ्यचर्या के दायरे को सीमित करना
 - 4. दैनिक विषय-वस्तु पूर्णता का सख्ती से पालन

Question ID : 4410091549681
Option 1 ID : 4410096121423
Option 2 ID : 4410096121424
Option 3 ID : 4410096121426
Option 4 ID : 4410096121425

Q.2 राष्ट्रीय एकीकरण मुख्यतः किसको बढ़ावा देता है?

- Ans
- 1. पृथक्करण (Isolation)
 - 2. अंतर्द्वंद्व (Conflict)
 - 3. सद्भावना (Harmony)
 - 4. एकता (Unity)

Question ID : 4410091628252
Option 1 ID : 4410096431181
Option 2 ID : 4410096431180
Option 3 ID : 4410096431179
Option 4 ID : 4410096431178

Q.3 शिक्षा का अधिकार (RTE) अधिनियम की धारा 12(1)(c), जिसके तहत निजी गैर-सहायता प्राप्त विद्यालयों में बंचित बच्चों के लिए 25% आरक्षण अनिवार्य है, मुख्य रूप से _____ में योगदान देती है।

- Ans
- 1. सामाजिक समावेश सुनिश्चित करने और स्तरीकरण में कमी करने
 - 2. सरकारी विद्यालयों में शिक्षकों के अनुपस्थिति में कमी करने
 - 3. निजी स्कूल स्वामियों को वित्तीय सहायता प्रदान करने
 - 4. पड़ोस-आधारित विद्यालय प्रवेश नियमों को हटाने

Question ID : 4410091543138
Option 1 ID : 4410096095593
Option 2 ID : 4410096095594
Option 3 ID : 4410096095592
Option 4 ID : 4410096095595

Q.4 निम्नलिखित में से कौन-सा, पाठ्यचर्या विकास का उपागम नहीं है?

- Ans
- 1. पारिस्थितिक उपागम
 - 2. विकासात्मक उपागम
 - 3. कार्यपरक उपागम
 - 4. परीक्षा उपागम

Question ID : 4410091618023
Option 1 ID : 4410096390958
Option 2 ID : 4410096390955
Option 3 ID : 4410096390956
Option 4 ID : 4410096390957

Q.5 सरकारी प्रशासनिक सेवाओं के लिए विश्वविद्यालय की डिग्री की आवश्यकता पर विश्वविद्यालय शिक्षा आयोग का क्या मत था?

- Ans
- 1. विश्वविद्यालय की डिग्री की आवश्यकता नहीं होनी चाहिए।
 - 2. विश्वविद्यालय की डिग्री अनिवार्य होनी चाहिए।
 - 3. किसी डिग्री की आवश्यकता निर्दिष्ट नहीं की जानी चाहिए।
 - 4. केवल स्नातकोत्तर डिग्री की आवश्यकता होनी चाहिए।

Question ID : 4410091639847
Option 1 ID : 4410096476598
Option 2 ID : 4410096476599
Option 3 ID : 4410096476601
Option 4 ID : 4410096476600

Q.6 भारतीय संविधान के किस प्रारंभिक भाग को इसकी 'आत्मा' कहा जाता है?

- Ans
- 1. सातवीं अनुसूची
 - 2. मूल कर्तव्य
 - 3. निदेशक तत्व
 - 4. उद्देशिका

Question ID : 4410091605531
Option 1 ID : 4410096341183
Option 2 ID : 4410096341180
Option 3 ID : 4410096341181
Option 4 ID : 4410096341182

Q.7 एक विद्यार्थी समूह में आत्मविश्वासी होता है, लेकिन अकेले होने पर विमुख हो जाता है। व्यक्तित्व के संदर्भ में इसकी व्याख्या क्या है?

- Ans
- 1. व्यक्तित्व केवल आनुवंशिक जैविक कारकों द्वारा निर्धारित होता है।
 - 2. विद्यार्थी में कोई पहचान योग्य व्यक्तित्व लक्षण नहीं होते हैं।
 - 3. व्यक्तित्व विभिन्न परिस्थितियों में थोड़ा भिन्न होता है, लेकिन कुल मिलाकर एक जैसा रहता है।
 - 4. व्यक्तित्व कभी नहीं बदलता और सभी परिस्थितियों में समान रहता है।

Question ID : 4410091551696
Option 1 ID : 4410096129412
Option 2 ID : 4410096129414
Option 3 ID : 4410096129413
Option 4 ID : 4410096129411

Q.8 एक विद्यालय के प्रधानाचार्य का लक्ष्य एक नया सामाजिक अध्ययन पाठ्यचर्या शुरू करना है जो समाजशास्त्रीय परिप्रेक्ष्यों (sociological perspectives) को गहराई से एकीकृत करता है। इस संदर्भ में कौन-सी कार्रवाई पाठ्यचर्या अभिकल्प में समाजशास्त्र के प्रभावी अनुप्रयोग को सर्वोत्तम रूप से प्रदर्शित करती है?

- Ans
- 1. मानकीकृत परीक्षण विषयवस्तु और परिणामों को प्राथमिकता देना
 - 2. केवल अधिगम शैलियों और संज्ञानात्मक मतभेदों पर ध्यान केंद्रित करना
 - 3. पाठ्यचर्या संरचना सूचित करने के लिए समूह गतिशीलता का विश्लेषण करना
 - 4. पृथक रूप में ऐतिहासिक तथ्यों को कंठस्थ करने पर बल देना

Question ID : 4410091621776
Option 1 ID : 4410096405910
Option 2 ID : 4410096405908
Option 3 ID : 4410096405911
Option 4 ID : 4410096405909

Q.9 भारत के संविधान की उद्देशिका के अनुसार, इसके लिए प्राधिकार का अंतिम स्रोत किसे माना गया है?

- Ans
- 1. संविधान सभा
 - 2. ब्रिटिश भारत सरकार
 - 3. भारत के लोग
 - 4. डॉ. बी. आर. अम्बेडकर

Question ID : 4410091544073
Option 1 ID : 4410096099392
Option 2 ID : 4410096099393
Option 3 ID : 4410096099391
Option 4 ID : 4410096099394

Q.10 यदि कोई बच्चा टैको (taco) को चखने के बाद उसे 'कुरकुरा सैंडविच' कहता है, तो पियाजे के सिद्धांत के आधार पर वह कौन-सी संज्ञानात्मक प्रक्रिया प्रदर्शित कर रहा है?

- Ans
- 1. मौजूदा स्कीमा (schema) को समायोजित करके समायोजन
 - 2. टैको को पुरानी स्कीमा में फिट करके आत्मसात्करण (Assimilation)
 - 3. संतुलन बनाए रखते हुए साम्यधारणा (Equilibration)
 - 4. संभ्रम का अनुभव करके असंतुलन (Disequilibrium)

Question ID : 4410091628532
Option 1 ID : 4410096432286
Option 2 ID : 4410096432287
Option 3 ID : 4410096432288
Option 4 ID : 4410096432289

Q.11 निम्नलिखित में से कौन-सा कथन बाल विकास में व्यक्तित्व के अर्थ की सटीक व्याख्या है?

- Ans
- 1. व्यक्तित्व का संबंध केवल बौद्धिक क्षमता से है।
 - 2. व्यक्तित्व का संबंध केवल शैक्षणिक उपलब्धि से है।
 - 3. व्यक्तित्व का संबंध केवल शारीरिक स्वरूप से है।
 - 4. अन्यो से अलग व्यावहारिक प्रतिरूप व्यक्तित्व कहलाता है।

Question ID : 4410091614580
Option 1 ID : 4410096377135
Option 2 ID : 4410096377136
Option 3 ID : 4410096377133
Option 4 ID : 4410096377134

Q.12 राधाकृष्णन आयोग ने डिग्री पाठ्यचर्या के लिए किस परिवर्तन का सुझाव दिया था?

- Ans
- 1. एक-वर्षीय कार्यक्रम, जिसमें केवल रटन अधिगम और सैद्धांतिक परीक्षाओं पर बल दिया जाता है
 - 2. तीन-वर्षीय पूर्व-स्नातक संरचना, जिसमें सामान्य और विशिष्ट शिक्षा का संतुलन बनाए रखा जाता है
 - 3. चार-वर्षीय व्यावसायिक मार्ग, जिसमें उदार कला और अनुसंधान घटकों को पूरी तरह से अनदेखा किया जाता है
 - 4. दो-वर्षीय स्नातकोत्तर, जिसमें बिना पूर्व-स्नातक मूल आवश्यकताओं पर फोकस किया जाता है

Question ID : 4410091550887
Option 1 ID : 4410096125823
Option 2 ID : 4410096125824
Option 3 ID : 4410096125825
Option 4 ID : 4410096125826

Q.13 वृद्धि और विकास का कौन-सा सिद्धांत यह बताता है कि एक बच्चे का शारीरिक नियंत्रण शरीर के केंद्र से बाहर की ओर विकसित होता है?

- Ans
- 1. शीर्ष-पदाभिमुख सिद्धांत (Cephalocaudal principle)
 - 2. समीपदूरभिमुख सिद्धांत (Proximodistal principle)
 - 3. परिपक्वता का सिद्धांत (Principle of maturation)
 - 4. वैयक्तिक भिन्नता का सिद्धांत (Principle of individual differences)

Question ID : 4410091600447
Option 1 ID : 4410096321467
Option 2 ID : 4410096321468
Option 3 ID : 4410096321470
Option 4 ID : 4410096321469

Q.14 निम्नलिखित में से कौन-सा कारक, व्यक्तित्व विकास को प्रभावित नहीं करता है?

- Ans
- 1. पर्यावरणीय कारक
 - 2. जैविक और वंशानुगत कारक
 - 3. सामाजिक-सांस्कृतिक कारक
 - 4. पारिस्थितिक कारक

Question ID : 4410091544014
Option 1 ID : 4410096099155
Option 2 ID : 4410096099158
Option 3 ID : 4410096099156
Option 4 ID : 4410096099157

Q.15 समाजशास्त्र में "समाजशास्त्रीय कल्पना" (sociological imagination) की अवधारणा मुख्य रूप से महत्वपूर्ण है, क्योंकि यह व्यक्तियों को _____ की अनुमति प्रदान करती है।

- Ans
- 1. व्यक्तिगत अनुभवों को व्यापक सामाजिक संरचनाओं से जोड़ने
 - 2. व्यक्तिगत समस्याओं को समाज से पृथक करने
 - 3. वर्तमान को आकार देने वाले ऐतिहासिक कारकों की अनदेखी करने
 - 4. सामाजिक संस्थाओं के प्रभाव को कम करने

Question ID : 4410091543158
Option 1 ID : 4410096095673
Option 2 ID : 4410096095672
Option 3 ID : 4410096095674
Option 4 ID : 4410096095675

Q.16 शिक्षा का अधिकार अधिनियम, 2009 के तहत, सार्वभौमिक प्राथमिक शिक्षा प्राप्त करने का एक मुख्य उद्देश्य क्या है?

- Ans
- 1. अतिरिक्त कोचिंग
 - 2. मौसमी कक्षाएं
 - 3. निःशुल्क स्कूली शिक्षा
 - 4. एकल-शिफ्ट कक्ष

Question ID : 4410091539548
Option 1 ID : 4410096081530
Option 2 ID : 4410096081531
Option 3 ID : 4410096081529
Option 4 ID : 4410096081532

Q.17 प्रारंभिक बाल्यावस्था में बच्चे, उछल-कूद और दौड़ने जैसी गतिविधियों को करने के लिए हाथों और पैरों की विस्तृत पेशियों का समन्वय करना शुरू कर देते हैं। इन गतिविधियों से मुख्यतः किस प्रकार का गत्यात्मक विकास प्रदर्शित होता है?

- Ans
- 1. सूक्ष्म गत्यात्मक कौशल विकास
 - 2. स्थूल गत्यात्मक कौशल विकास
 - 3. संवेदी विकास प्रगति
 - 4. भाषा विकास संवृद्धि

Question ID : 4410091617575
Option 1 ID : 4410096389200
Option 2 ID : 4410096389199
Option 3 ID : 4410096389201
Option 4 ID : 4410096389202

Q.18 जीवन के पहले 18 महीनों के दौरान शिशुओं में विश्वास के विकसित होने का सर्वोत्तम समर्थन कौन-सी रणनीति करती है?

- Ans
- 1. प्रारंभ में ही आत्मनिर्भरता को प्रोत्साहित करना
 - 2. असंगत देखभाल प्रदान करना
 - 3. उनकी आवश्यकताओं के प्रति सदैव प्रतिक्रिया देना
 - 4. उन्हें बिना अनुक्रिया दिए रोने देना

Question ID : 4410091648431
Option 1 ID : 4410096509955
Option 2 ID : 4410096509953
Option 3 ID : 4410096509954
Option 4 ID : 4410096509952

Q.19 बाल्यावस्था के दौरान व्यक्तित्व-विकास _____ से प्रभावित होता है।

- Ans
- 1. पारिवारिक परिवेश
 - 2. संगीत प्रतिभा
 - 3. विद्यालय में उपस्थिति
 - 4. शारीरिक व्यायाम

Question ID : 4410091692109
Option 1 ID : 4410096674539
Option 2 ID : 4410096674541
Option 3 ID : 4410096674540
Option 4 ID : 4410096674538

Q.20 भारतीय समाज में विभिन्न भाषाएं बोलने वाले व्यक्ति रहते हैं। यह किस प्रकार की विविधता है?

- Ans
- 1. सामाजिक विविधता (Social diversity)
 - 2. संजातीय विविधता (Ethnic diversity)
 - 3. संज्ञानात्मक विविधता (Cognitive diversity)
 - 4. भाषाई विविधता (Linguistic diversity)

Question ID : 4410091570130
Option 1 ID : 4410096201522
Option 2 ID : 4410096201521
Option 3 ID : 4410096201524
Option 4 ID : 4410096201523

Section : Discipline2

Q.1 कक्षाकक्ष में प्रभावी कार्यान्वयन सुनिश्चित करने के लिए पाठ योजना में चरणों का सही क्रम क्या है?

- Ans
- 1. अधिगम का आकलन करें, विषय-वस्तु का चयन करें, क्रियाकलापों को व्यवस्थित करें, उद्देश्य निर्धारित करें।
 - 2. विषय-वस्तु का चयन करें, क्रियाकलापों को व्यवस्थित करें, उद्देश्य निर्धारित करें, अधिगम का आकलन करें।
 - 3. क्रियाकलापों को व्यवस्थित करें, अधिगम का आकलन करें, विषय-वस्तु का चयन करें, उद्देश्य निर्धारित करें।
 - 4. उद्देश्य निर्धारित करें, विषय-वस्तु और विधियों का चयन करें, क्रियाकलापों को व्यवस्थित करें, अधिगम का आकलन करें।

Question ID : 4410091608386
Option 1 ID : 4410096352458
Option 2 ID : 4410096352459
Option 3 ID : 4410096352457
Option 4 ID : 4410096352456

Q.2 निम्नलिखित में से कौन-सा, सामाजिक और शैक्षिक विषयों पर आधारित फिल्मों को कक्षा में देखने का प्राथमिक शैक्षिक उद्देश्य है?

- Ans
- 1. पाठ्यपुस्तक अधिगम को पूर्णतः प्रतिस्थापित करना
 - 2. खाली अवधि के दौरान विद्यार्थियों का मनोरंजन करना
 - 3. फिल्म के डायलॉग को याद रखने की छात्रों की स्मृति का परीक्षण करना
 - 4. वास्तविक जीवन के सामाजिक मुद्दों के संबंध में समीक्षात्मक चिंतन को बढ़ावा देना

Question ID : 4410091542409
Option 1 ID : 4410096092741
Option 2 ID : 4410096092739
Option 3 ID : 4410096092742
Option 4 ID : 4410096092740

Q.3 अधिकांश आधुनिक शिक्षणशास्त्रीय उपागमों का आधार कौन-सा दर्शन है?

- Ans
- 1. सक्रिय शिक्षार्थी वचनबद्धता को बढ़ावा देने वाला रचनावाद
 - 2. निश्चित ज्ञान पर बल देने वाला तत्ववाद
 - 3. विद्यार्थी के इनपुट को अस्वीकार करने वाला शाश्वतवाद
 - 4. केवल रटन अधिगम पर फोकस करने वाला व्यवहारवाद

Question ID : 4410091553704
Option 1 ID : 4410096137487
Option 2 ID : 4410096137489
Option 3 ID : 4410096137490
Option 4 ID : 4410096137488

Q.4 भाषा का कौन-सा कार्य बच्चे को अपनी आवश्यकताओं को पूरा करने और इच्छाओं को व्यक्त करने में सक्षम बनाता है?

- Ans
- 1. उपकरणात्मक कार्य
 - 2. व्यक्तिगत कार्य
 - 3. अन्वेषणात्मक कार्य
 - 4. विनियामक कार्य

Question ID : 4410091572385
Option 1 ID : 4410096210529
Option 2 ID : 4410096210530
Option 3 ID : 4410096210531
Option 4 ID : 4410096210528

Q.5 कोई शिक्षिका अपनी विज्ञान कक्षा में अंतर्विषय के अतिरिक्त भाषा के प्रकार्यों को एकीकृत करके समीक्षात्मक चिंतन को बढ़ावा देना चाहती है। कौन-सी कार्यनीति पाठ्यचर्या में भाषा के प्रकार्यों को सबसे प्रभावी तरीके से समर्थन प्रदान करती है?

- Ans
- 1. वैज्ञानिक तथ्यों पर केंद्रित वर्कशीट निर्दिष्ट करना
 - 2. औचित्य सहित समूह परिचर्चाओं को सुगम बनाना
 - 3. विद्यार्थियों को पाठ्यपुस्तक उच्च स्वर में पढ़ने के लिए कहना
 - 4. विद्यार्थियों के सुनने के लिए ऑडियो व्याख्यान चलाना

Question ID : 4410091608524
Option 1 ID : 4410096353009
Option 2 ID : 4410096353010
Option 3 ID : 4410096353008
Option 4 ID : 4410096353011

Q.6 भाषा, संप्रेषण के अन्य रूपों से किस प्रकार भिन्न है?

- Ans
- 1. यह सदैव लिखित होती है।
 - 2. यह ऐच्छिक और अनैसर्गिक होती है।
 - 3. यह केवल संकेतों (हाव-भाव) का उपयोग करती है।
 - 4. इसका उपयोग सभी जंतुओं द्वारा किया जाता है।

Question ID : 4410091602502
Option 1 ID : 4410096329582
Option 2 ID : 4410096329583
Option 3 ID : 4410096329584
Option 4 ID : 4410096329585

Q.7 कोल्ब (Kolb) का अनुभवात्मक अधिगम चक्र "प्रेक्षण करने हेतु अधिगम (learning to observe)" को अनुचितन प्रेक्षण के रूप में दर्जा देता है, जहाँ मूर्त अनुभवों की समीक्षा से आत्म-बोध प्रकट होता है, जिससे _____।

- Ans
- 1. उन व्यक्तिगत भावनाओं, पूर्वधारणाओं और पूर्वाग्रहों की पहचान की जा सके जो व्याख्याओं को प्रभावित करते हैं और व्यवहारिक पैटर्न में व्यवस्थित अंतर्दृष्टि उत्पन्न करते हैं
 - 2. व्यक्तिगत प्रासंगिक वास्तविकताओं से पृथक अमूर्त सिद्धांतों की पहचान किया जा सके जो स्वतंत्र रूप से सामान्यीकृत संकल्पनात्मक फ्रेमवर्क बनाते हैं
 - 3. पूरी तरह से आत्मनिरीक्षण/व्यक्तिपरक सत्यापन तंत्र के बिना सहपाठियों के विरुद्ध बाहरी प्रदर्शन मैट्रिक्स बेंचमार्क की पहचान की जा सके
 - 4. अनुक्रियात्मक और आवेगपूर्ण तरीके से ध्यानमग्न अर्थ-निर्माण प्रक्रियाओं पर क्रिया को प्राथमिकता देते हुए तात्कालिक व्यवहारिक समायोजन की पहचान की जा सके

Question ID : 4410091553115
Option 1 ID : 4410096134770
Option 2 ID : 4410096134767
Option 3 ID : 4410096134768
Option 4 ID : 4410096134769

Q.8 शैक्षिक परिदृश्य के किस पहलू ने शिक्षण माध्यम के रूप में फिल्म के उपयोग को प्रभावित किया है?

- Ans
- 1. वैयक्तिक अधिगम शैलियों के लिए वरीयता
 - 2. तेजी से तकनीकी प्रगति
 - 3. कंठस्थीकरण की तकनीकों पर केंद्रित
 - 4. शिक्षा बजट में कमी

Question ID : 4410091653389
Option 1 ID : 4410096528909
Option 2 ID : 4410096528906
Option 3 ID : 4410096528908
Option 4 ID : 4410096528907

Q.9 पाठ योजना बनाने में कौन-सा चरण यह सुनिश्चित करता है कि उद्देश्य गतिविधियों के साथ संरेखित हों?

- Ans
- 1. पूर्व ज्ञान का मूल्यांकन
 - 2. विषय का परिचय
 - 3. रणनीतियों का चयन
 - 4. पूर्णता पर चर्चा

Question ID : 4410091632967
Option 1 ID : 4410096449988
Option 2 ID : 4410096449987
Option 3 ID : 4410096449986
Option 4 ID : 4410096449989

Q.10 निम्नलिखित में से कौन-सा, बाल-स्तरीय आकलन को कक्षा-स्तरीय आकलन से विभेदित करता है?

- Ans
- 1. बाल-स्तरीय आकलन में शिक्षण पद्धतियाँ शामिल होती हैं।
 - 2. बाल-स्तरीय आकलन, वैयक्तिक भाषा संबंधी अंतःक्रियाओं पर केंद्रित होते हैं।
 - 3. बाल-स्तरीय आकलन में केवल प्रेक्षणमूलक डेटा ही एकत्र किया जाता है।
 - 4. बाल-स्तरीय आकलन में सामान्य कक्षा दिनचर्या का मापन किया जाता है।

Question ID : 4410091654914
Option 1 ID : 4410096534623
Option 2 ID : 4410096534621
Option 3 ID : 4410096534624
Option 4 ID : 4410096534622

Q.11 पूर्व-प्राथमिक आयु के बच्चों में प्रारंभिक साक्षरता विकास का एक सामान्य संकेत क्या है?

- Ans
- 1. पाठ्यपुस्तकें पढ़ना
 - 2. निबंध लिखना
 - 3. जटिल शब्दों की वर्तनी
 - 4. पुस्तकें पढ़ने का बहाना करना

Question ID : 4410091608387
Option 1 ID : 4410096352462
Option 2 ID : 4410096352461
Option 3 ID : 4410096352463
Option 4 ID : 4410096352460

Q.12 समाजशास्त्रीय अध्ययनों में, उर्ध्वगामी सामाजिक गतिशीलता सर्वाधिक _____ से प्रभावित होती है।

- Ans
- 1. शैक्षिक पहुंच (Educational access)
 - 2. क्षेत्रीय पहचान (Regional identity)
 - 3. जाति समूहन (Caste grouping)
 - 4. भाषा विभिन्नता (Language variation)

Question ID : 4410091541822
Option 1 ID : 4410096090455
Option 2 ID : 4410096090456
Option 3 ID : 4410096090458
Option 4 ID : 4410096090457

Q.13 पाठ योजना बनाने की प्रक्रिया में मुख्य रूप से क्या शामिल होता है?

- Ans
- 1. यादृच्छिक रूप से पाठ्यपुस्तकों का चयन करना
 - 2. किसी विशिष्ट पाठ को पढ़ाने के तरीके के बारे में विस्तृत मार्गदर्शिका
 - 3. केवल विद्यालय की समय-सारणी तय करना
 - 4. केवल पाठ्येतर गतिविधियों की योजना बनाना

Question ID : 4410091547606
Option 1 ID : 4410096113277
Option 2 ID : 4410096113275
Option 3 ID : 4410096113276
Option 4 ID : 4410096113278

Q.14 कक्षाकक्ष अभ्यास में चर्चा के अनुसार, प्रारंभिक भाषा अधिगम में साहित्य की मुख्य भूमिका का निम्नलिखित में से कौन-सा सर्वश्रेष्ठ वर्णन करता है?

- Ans
- 1. केवल शब्दावली और व्याकरण के नियमों को संदर्भ से अलग करके याद करने पर फोकस करना
 - 2. बच्चों को समृद्ध भाषा, कहानियों और विचारों से परिचित कराना जो उनके बोध और अभिव्यक्ति को विकसित करते हैं
 - 3. पठन को केवल पाठ्यपुस्तकों और तथ्यात्मक जानकारी तक सीमित रखना, रचनात्मक साहित्य से बचना
 - 4. बच्चों को बिना किसी सार्थक संदर्भ या उद्देश्य के वर्कशीट और अभ्यास पूरा करना सिखाना

Question ID : 4410091638097
Option 1 ID : 4410096469985
Option 2 ID : 4410096469984
Option 3 ID : 4410096469987
Option 4 ID : 4410096469986

Q.15 एक विद्यालय प्रशासक को 21वीं सदी के शिक्षार्थियों की आवश्यकताओं के अनुरूप पाठ्यचर्या को संशोधित करने का कार्य सौंपा जाता है। पाठ्यचर्या को प्रासंगिक और उद्देश्यपूर्ण दोनों बनाए रखने के लिए किस कार्य को प्राथमिकता दी जानी चाहिए?

- Ans
- 1. शिक्षार्थियों द्वारा अपेक्षित सामाजिक मांगों और भावी सामर्थ्यों का विश्लेषण करना
 - 2. सभी पाठ्यपुस्तकों को नवीनतम संस्करणों से अद्यतन करना
 - 3. कक्षाकक्ष समय की बचत करने के लिए विषयों की संख्या को कम करना
 - 4. पाठ्यविवरण को तथ्यों के रटन स्मरण पर केंद्रित करना

Question ID : 4410091608070
Option 1 ID : 4410096351217
Option 2 ID : 4410096351216
Option 3 ID : 4410096351218
Option 4 ID : 4410096351219

Q.16 निम्नलिखित में से किसे मीटरी पद्धति (metric system) में लंबाई मापन का मानक मात्रक माना जाता है?

- Ans
- 1. मीटर
 - 2. सेंटीमीटर
 - 3. किलोग्राम
 - 4. मिलीमीटर

Question ID : 4410091638171
Option 1 ID : 4410096470306
Option 2 ID : 4410096470308
Option 3 ID : 4410096470307
Option 4 ID : 4410096470309

Q.17 स्कूलों में सामाजिक और शैक्षिक सामग्री वाली फिल्मों दिखाने का मुख्य उद्देश्य _____ है।

- Ans
- 1. सामाजिक जागरूकता और नैतिक मूल्यों का विकास करना
 - 2. केवल सेलिब्रिटी कल्चर पर फोकस करना
 - 3. कक्षा शिक्षण को पूरी तरह से प्रतिस्थापित करना
 - 4. बिना किसी अधिगम के विद्यार्थियों का मनोरंजन करना

Question ID : 4410091547434
Option 1 ID : 4410096112596
Option 2 ID : 4410096112598
Option 3 ID : 4410096112597
Option 4 ID : 4410096112595

Q.18 कौन-सा उदाहरण शिक्षा-शास्त्र के कलात्मक आयाम को सर्वोत्तम रूप से दर्शाता है?

- Ans
- 1. निर्धारित चरणों का कठोरता से पालन करते हुए पाठ योजनाएं तैयार करना
 - 2. व्यवहारवादी सिद्धांतों के अनुसार सख्ती से पुनर्बलन लागू करना
 - 3. मानकीकृत मूल्यांकनों का एकसमान तरीके से प्रयोजन करना
 - 4. रियल-टाइम कक्षा गतिविधियों पर आधारित रचनात्मक और अनुकूली प्रश्न पूछना

Question ID : 4410091546752
Option 1 ID : 4410096109881
Option 2 ID : 4410096109879
Option 3 ID : 4410096109882
Option 4 ID : 4410096109880

Q.19 एक समुदाय किसी प्रतिष्ठित सांस्कृतिक व्यक्तित्व (iconic cultural figure) का उत्सव मनाने का निर्णय लेता है, जिनके मूल्यों ने समावेशिता और संवाद को बढ़ावा दिया। यह उत्सव प्रतिभागियों के बीच समकालीन सांस्कृतिक विश्व-दृष्टिकोण को किस प्रकार सर्वोत्तम रूप से बढ़ावा दे सकता है?

- Ans
- 1. उस प्रतिष्ठित व्यक्ति से संबंधित केवल ऐतिहासिक संदर्भ पर ध्यान केंद्रित करना
 - 2. उस प्रतिष्ठित व्यक्ति से संबंधित पारंपरिक अनुष्ठानों को पुनः अधिनियमित करना
 - 3. वर्तमान के सोशल एप्लिकेशनों पर चर्चा करना
 - 4. उस प्रतिष्ठित व्यक्ति के संबंध में जीवनी संबंधी पैम्फलेट्स का वितरण करना

Question ID : 4410091608254
Option 1 ID : 4410096351938
Option 2 ID : 4410096351936
Option 3 ID : 4410096351939
Option 4 ID : 4410096351937

Q.20 प्रेक्षण लॉग पर चिंतन करने से विद्यार्थी-शिक्षकों को अपने शिक्षण मूल्यों को स्पष्ट करने में सहायता मिलती है। यह प्रक्रिया मुख्यतः किस व्यावसायिक गुण को बढ़ावा देती है?

- Ans
- 1. शैक्षिक सिद्धांतों का स्मरण
 - 2. प्रतिस्पर्धी कक्षा प्रबंधन
 - 3. मानकीकृत पाठ वितरण
 - 4. प्रामाणिक व्यावसायिक पहचान

Question ID : 4410091606166
Option 1 ID : 4410096343690
Option 2 ID : 4410096343689
Option 3 ID : 4410096343691
Option 4 ID : 4410096343688

Section : Discipline3

Q.1 कोई शिक्षार्थी कक्षा में होने वाली चर्चा में अच्छा प्रदर्शन करता है, लेकिन पर्याप्त तैयारी के बावजूद परीक्षाओं में लगातार खराब प्रदर्शन करता है। कौन-सा कारक इस विसंगति को सर्वाधिक विश्वसनीय रूप से स्पष्ट करता है?

- Ans
- 1. संज्ञानात्मक स्मरण को प्रभावित करने वाली उच्च परीक्षा चिंता
 - 2. विषय बोध को प्रभावित करने वाली निम्न अकादमिक क्षमता
 - 3. अधिगम प्रक्रिया को प्रभावित करने वाली कक्षा की कमजोर अन्योन्य क्रिया
 - 4. विषयवस्तु प्रेषण को प्रभावित करने वाली खराब अनुदेशनात्मक गुणवत्ता

Question ID : 4410091606606
Option 1 ID : 4410096345420
Option 2 ID : 4410096345421
Option 3 ID : 4410096345422
Option 4 ID : 4410096345423

Q.2 नई विद्यालय प्रणाली की संकल्पना में, कार्यरत बच्चों, लड़कियों और दिव्यांगों जैसे अछूते जनसमूहों (unreached groups) की आवश्यकताओं को पूरा करना क्यों महत्वपूर्ण है?

- Ans
- 1. समाज में सभी के लिए समान अवसरों का समर्थन करने वाली समावेशी शिक्षा सुनिश्चित करना
 - 2. संसाधनों को केवल उच्च शैक्षणिक निष्पादन वाले विद्यार्थियों पर फोकस करना
 - 3. दक्षता के लिए पारंपरिक शैक्षिक संरचनाओं को बनाए रखना
 - 4. प्रबंधन को आसान बनाने के लिए विद्यार्थियों की पृष्ठभूमि की विविधता को कम करना

Question ID : 4410091603911
Option 1 ID : 4410096334832
Option 2 ID : 4410096334834
Option 3 ID : 4410096334833
Option 4 ID : 4410096334835

Q.3 निम्नलिखित में से कौन-सा अनुक्रम निगमन शिक्षण उपागम के चरणों को सही रूप से रेखांकित करता है?

- Ans
- 1. समाधान, सत्यापन, पहचान, परिकल्पना
 - 2. नियम, व्याख्या, उदाहरण, अभ्यास, पुष्टि
 - 3. सत्यापन, समाधान, पहचान, परिकल्पना
 - 4. परिकल्पना, समाधान, सत्यापन, पहचान

Question ID : 4410091646664
Option 1 ID : 4410096502898
Option 2 ID : 4410096502897
Option 3 ID : 4410096502899
Option 4 ID : 4410096502900

Q.4 निम्नलिखित में से कौन-सा, प्राथमिक विद्यालय स्तर पर गणित शिक्षण का एक प्रमुख उद्देश्य है?

- Ans
- 1. सूत्रों के कठस्थीकरण को प्रोत्साहित करना
 - 2. विद्यार्थियों को अंकगणितीय संक्रियाओं तक सीमित रखना
 - 3. केवल उच्च गणितीय सिद्धांतों पर ध्यान केंद्रित करना
 - 4. विद्यार्थियों में समस्या-समाधान क्षमता विकसित करना

Question ID : 4410091651308
Option 1 ID : 4410096521240
Option 2 ID : 4410096521242
Option 3 ID : 4410096521241
Option 4 ID : 4410096521243

Q.5 सामाजिक-सांस्कृतिक सिद्धांत के अनुसार, सहपाठी अन्योन्यक्रिया अधिगम को किस प्रकार बढ़ा सकती है?

- Ans
- 1. संवाद के माध्यम से ज्ञान का सह-निर्माण करके
 - 2. सभी विद्यार्थियों के लिए अधिगम की गति को समान करके
 - 3. पृथक व्यक्तिगत अभ्यास को प्रोत्साहित करके
 - 4. शिक्षक की अनुदेशात्मक भूमिका को कम करके

Question ID : 4410091635483
Option 1 ID : 4410096459951
Option 2 ID : 4410096459954
Option 3 ID : 4410096459953
Option 4 ID : 4410096459952

Q.6 बच्चों पर टेलीविजन विज्ञापन का सामान्य रूप से क्या प्रभाव पड़ता है?

- Ans 1. यह कुछ प्रॉडक्ट के प्रति उनकी वरीयताओं को प्रभावित कर सकता है।
 2. माता-पिता की मध्यस्थता के कारण इसका प्रभाव बहुत कम पड़ता है।
 3. यह समय के साथ विज्ञापित ब्रांडों में उनकी रुचि को कम करता है।
 4. यह अनुनयात्मक उद्देश्य (persuasive intent) के प्रति उनकी समीक्षात्मक मूल्यांकन को बढ़ाता है।

Question ID : 4410091610625
 Option 1 ID : 4410096361383
 Option 2 ID : 4410096361386
 Option 3 ID : 4410096361385
 Option 4 ID : 4410096361384

Q.7 किसी विद्यालय की प्रभावशीलता का आकलन करने के लिए सामान्यतः किस उपागम का उपयोग किया जाता है?

- Ans 1. समय के साथ विद्यार्थियों के अधिगम परिणामों का मूल्यांकन करना
 2. इमारतों की वास्तुपरक डिजाइन की समीक्षा करना
 3. मनोरंजन सुविधाओं और उपस्करों का निरीक्षण करना
 4. दैनिक प्रशासनिक दिनचर्या की बारीकी से जांच करना

Question ID : 4410091619517
 Option 1 ID : 4410096396924
 Option 2 ID : 4410096396925
 Option 3 ID : 4410096396927
 Option 4 ID : 4410096396926

Q.8 दार्शनिक परिप्रेक्ष्य से, शिक्षा की दृष्टि विकसित करने के लिए शिक्षकों को इस प्रश्न का समाधान करना होगा कि _____ ।

- Ans 1. शिक्षा का उद्देश्य क्या है
 2. कक्षाओं का कुशलतापूर्वक प्रबंधन कैसे किया जाए
 3. परीक्षा अंकों को अधिकतम कैसे किया जाए
 4. कौन-सा ज्ञान सबसे अधिक परीक्षा योग्य है

Question ID : 4410091580902
 Option 1 ID : 4410096244963
 Option 2 ID : 4410096244964
 Option 3 ID : 4410096244966
 Option 4 ID : 4410096244965

Q.9 कोई विद्यार्थी विज्ञान प्रयोगों में उत्सुकतापूर्वक भाग लेता है और कक्षा के बाद अतिरिक्त संसाधनों का पता लगाता है, वह मुख्यतः अधिगम को प्रभावित करने वाले किस कारक को प्रदर्शित कर रहा है?

- Ans
- 1. संवेग
 - 2. अभिरुचि
 - 3. अधिगम शैली
 - 4. परिप्रेक्ष्य

Question ID : 4410091679076
Option 1 ID : 4410096624510
Option 2 ID : 4410096624512
Option 3 ID : 4410096624511
Option 4 ID : 4410096624509

Q.10 एक बच्चा कई प्रयासों के बाद सही बटन ढूँढकर उसे दबाना सीखता है। कौन-सा अधिगम सिद्धांत इसकी व्याख्या करता है?

- Ans
- 1. क्लासिकी अनुकूलन
 - 2. अव्यक्त अधिगम
 - 3. परीक्षण और त्रुटि अधिगम
 - 4. अवलोकनात्मक अधिगम

Question ID : 4410091568380
Option 1 ID : 4410096194804
Option 2 ID : 4410096194807
Option 3 ID : 4410096194805
Option 4 ID : 4410096194806

Q.11 During a training session, an instructor observes that employees can accurately follow written instructions involving rare words but hesitate to use those same words in group discussions. What does this indicate about the nature of their vocabulary?

- Ans
- 1. The employees' active vocabulary is more dominant than their passive vocabulary.
 - 2. The employees lack a developed passive vocabulary.
 - 3. The employees' understanding shows a stronger passive vocabulary than active vocabulary.
 - 4. The employees' vocabulary is equally developed in both forms.

Question ID : 4410091623858
Option 1 ID : 4410096414012
Option 2 ID : 4410096414014
Option 3 ID : 4410096414013
Option 4 ID : 4410096414015

Q.12 एक शिक्षक ने नोटिस किया कि जो विद्यार्थी पहले कक्षा में सक्रिय रूप से भाग लेता था, वह अचानक विनिवर्तित हो गया है और उसने असाइनमेंट पूरा करना बंद कर दिया है। एक संवेदनशील प्रेक्षक के रूप में शिक्षक की भूमिका को ध्यान में रखते हुए, सबसे उपयुक्त प्रारंभिक अनुक्रिया क्या होगी?

- Ans
- 1. संभावित चिंताओं को समझने के लिए विद्यार्थी से व्यक्तिगत रूप से बात करें
 - 2. विद्यार्थी को सीधे मानसिक स्वास्थ्य विशेषज्ञ के पास भेजें
 - 3. विद्यार्थी से पहले परिचर्चा किए बिना माता-पिता और प्राधिकारियों को सूचित करें
 - 4. परिवर्तन को नजरअंदाज करें और विद्यार्थी के स्वयं सुधार करने की प्रतीक्षा करें

Question ID : 4410091603939
Option 1 ID : 4410096334944
Option 2 ID : 4410096334945
Option 3 ID : 4410096334946
Option 4 ID : 4410096334947

Q.13 What is a key reason for the importance of English in modern education?

- Ans
- 1. Regional language
 - 2. Official language
 - 3. Medium of instruction
 - 4. National language

Question ID : 4410091629716
Option 1 ID : 4410096436952
Option 2 ID : 4410096436950
Option 3 ID : 4410096436951
Option 4 ID : 4410096436953

Q.14 अभिभावक-शिक्षक संघ में मुख्यतः कौन भागीदार होता है?

- Ans
- 1. कोच और निर्णायक
 - 2. अभिभावक और शिक्षक
 - 3. विद्यार्थी और भूतपूर्व विद्यार्थी
 - 4. प्रधानाचार्य और निरीक्षक

Question ID : 4410091631434
Option 1 ID : 4410096443963
Option 2 ID : 4410096443960
Option 3 ID : 4410096443961
Option 4 ID : 4410096443962

Q.15 एक कक्षा गतिविधि में, विद्यार्थियों को अलग-अलग आकार की मेजों को ढकने के लिए टाइलों दी जाती हैं। वे देखते हैं कि आवश्यक टाइलों की संख्या इस बात पर निर्भर करती है कि टाइलों को बिना किसी अंतराल या अतिव्याप्ति के कितनी निकटता से व्यवस्थित किया गया है। यह गतिविधि किस गलत धारणा को दूर करने की सर्वाधिक संभावना रखती है?

- Ans
- 1. पृष्ठ आवरण के लिए क्षेत्रफल की तुलना में परिमाण अधिक महत्वपूर्ण है।
 - 2. टाइलों को गिनकर आयतन ज्ञात किया जा सकता है।
 - 3. लंबाई से यह निर्धारित होता है कि कितनी टाइलों का उपयोग किया गया है।
 - 4. क्षेत्रफल मापने के लिए बिना किसी अंतराल या अतिव्याप्ति के पूर्ण आवरण आवश्यक है।

Question ID : 4410091606460
Option 1 ID : 4410096344849
Option 2 ID : 4410096344850
Option 3 ID : 4410096344851
Option 4 ID : 4410096344848

Q.16 एक नव नियुक्त शिक्षक NPST दिशानिर्देशों के अनुरूप पेशेवर नैतिकता का पालन करना चाहता है। कौन-सी कार्यप्रणाली विद्यार्थियों के साथ दैनिक अन्यान्यक्रिया में इस प्रतिबद्धता को सर्वोत्तम रूप से प्रदर्शित करती है?

- Ans
- 1. कक्षा गतिविधियों में केवल उच्च प्रदर्शन करने वाले विद्यार्थियों को पुरस्कृत करना।
 - 2. सभी विद्यार्थियों के साथ पक्षपात के बिना निष्पक्षता और सम्मान के साथ व्यवहार करना।
 - 3. सहकर्मियों के साथ स्वतंत्र रूप से विद्यार्थी संबंधी गोपनीय जानकारी साझा करना।
 - 4. विद्यार्थियों के मध्य सहयोग की तुलना में प्रतिस्पर्धा को प्रोत्साहित करना।

Question ID : 4410091616403
Option 1 ID : 4410096384536
Option 2 ID : 4410096384534
Option 3 ID : 4410096384535
Option 4 ID : 4410096384537

Q.17 A teacher is reviewing a student's informal email that says, 'Hey, what's up? Wanna catch up after class?' The teacher comments that while the grammar is not formally correct, it is appropriate for the setting. Which principle is the teacher demonstrating?

- Ans
- 1. Notion of correctness
 - 2. Descriptive grammar
 - 3. Notion of appropriateness
 - 4. Prescriptive grammar

Question ID : 4410091609798
Option 1 ID : 4410096358104
Option 2 ID : 4410096358107
Option 3 ID : 4410096358105
Option 4 ID : 4410096358106

Q.18 निम्नलिखित में से कौन-सा कार्य, विद्यालय में एक शिक्षक के मूलभूत दायित्व को दर्शाता है?

- Ans
- 1. सुरक्षित और सहायक अधिगम परिवेश सुनिश्चित करना
 - 2. पाठ्येतर समारोह कार्यक्रमों का समन्वय करना
 - 3. संस्थागत वित्तीय आयोजन प्रक्रियाओं का प्रबंधन करना
 - 4. राष्ट्रीय स्तर पर कानूनी अनुपालन को विनियमित करना

Question ID : 4410091619490
Option 1 ID : 4410096396816
Option 2 ID : 4410096396819
Option 3 ID : 4410096396817
Option 4 ID : 4410096396818

Q.19 Why is English considered important in the modern world?

- Ans
- 1. It replaces all local languages in daily life and cultural practices.
 - 2. It serves as a global language for communication in business, science, and technology.
 - 3. It is primarily used for casual conversation and entertainment only.
 - 4. It is the only language used for education and administration worldwide.

Question ID : 4410091638757
Option 1 ID : 4410096472606
Option 2 ID : 4410096472604
Option 3 ID : 4410096472607
Option 4 ID : 4410096472605

Q.20 भारतीय समाज के संदर्भ में, कौन-सा कारक या कारकों का संयोजन बच्चों के पालन-पोषण के दौरान उनकी लैंगिक भूमिकाओं की समझ को सर्वाधिक प्रभावित करता है?

- Ans
- 1. पारिवारिक प्रथाएं और मीडिया प्रस्तुतिकरण
 - 2. केवल विद्यालयी पाठ्यचर्या
 - 3. समसमूह की प्राथमिकताएं और खेल गतिविधियां
 - 4. धार्मिक ग्रंथ और सामुदायिक कार्यक्रम

Question ID : 4410091619492
Option 1 ID : 4410096396824
Option 2 ID : 4410096396826
Option 3 ID : 4410096396827
Option 4 ID : 4410096396825

Q.1 पाठ योजना के हर्बर्टियन (Herbartian) चरण मुख्यतः _____ को दर्शाते हैं।

- Ans
- 1. व्यक्तिगत स्व-गति आधारित अनुदेश
 - 2. तार्किक क्रम में अधिगम अनुभव
 - 3. बिना मार्गदर्शन के खोज अधिगम
 - 4. परीक्षा-उन्मुख शिक्षण

Question ID : 4410091584413
Option 1 ID : 4410096258891
Option 2 ID : 4410096258893
Option 3 ID : 4410096258894
Option 4 ID : 4410096258892

Q.2 जब एक शिक्षक पाठ के दौरान किसी विद्यार्थी के विचार को जानने के लिए पहले से तय व्याकरण अभ्यास को बीच में ही रोक देता है, तो इससे यह पता चलता है कि शिक्षण को _____ होना चाहिए।

- Ans
- 1. कौशल अभ्यास तक सीमित
 - 2. उद्विक्तासी स्थितियों के प्रति अनुक्रियाशील
 - 3. अग्रिम योजना द्वारा नियत
 - 4. सर्वथा पाठ्यक्रम से संबंधित

Question ID : 4410091558844
Option 1 ID : 4410096157763
Option 2 ID : 4410096157761
Option 3 ID : 4410096157764
Option 4 ID : 4410096157762

Q.3 अभिभावक-शिक्षक संघ (PTA) किस प्रकार से विद्यालय के विकास में सबसे प्रभावी ढंग से योगदान प्रदान कर सकता है?

- Ans
- 1. विद्यालय प्रबंधन को प्रतिस्थापित करके
 - 2. शिक्षकों और अभिभावकों के बीच संवाद को बढ़ावा देकर
 - 3. विशेष रूप से शिक्षकों की निगरानी करके
 - 4. सभी प्रशासनिक निर्णय लेकर

Question ID : 4410091641244
Option 1 ID : 4410096482132
Option 2 ID : 4410096482130
Option 3 ID : 4410096482129
Option 4 ID : 4410096482131

Q.4 समीक्षात्मक चिंतन को बढ़ावा देने के लिए सामाजिक अध्ययन में किस पहलू पर सबसे अधिक बल दिया जाता है?

- Ans
- 1. तथ्यों को याद करना
 - 2. घटनाओं की सूची बनाना
 - 3. राजधानियों की पहचान करना
 - 4. सामाजिक मुद्दों का विश्लेषण करना

Question ID : 4410091636595
Option 1 ID : 4410096464245
Option 2 ID : 4410096464247
Option 3 ID : 4410096464246
Option 4 ID : 4410096464248

Q.5 स्व-वित्तपोषित निजी उच्च शिक्षा के माध्यम से सामाजिक समानता को गंभीर रूप से प्रभावित करते हुए आर्थिक उदारीकरण कौन-से तत्वविचार को प्रोत्साहित करता है?

- Ans
- 1. गुणवत्ता मानकों में उल्लेखनीय गिरावट होगी।
 - 2. उपयोगकर्ताओं को पूरा व्यय स्वयं वहन करना होगा।
 - 3. ज्ञान आधारित कार्यकर्ताओं को प्राथमिकता दी जाएगी।
 - 4. लोक निधियों में द्रुततया कमी आएगी।

Question ID : 4410091558876
Option 1 ID : 4410096157891
Option 2 ID : 4410096157890
Option 3 ID : 4410096157892
Option 4 ID : 4410096157889

Q.6 पर्यावरण अध्ययन के शिक्षण के संदर्भ में, निम्नलिखित में से कौन-सा विकल्प 'निम्न लागत वाली और बिना लागत वाली सामग्री' (low cost no cost materials) को सर्वोत्तम रूप में परिभाषित करता है?

- Ans
- 1. उन्नत प्रौद्योगिकी की आवश्यकता वाली सामग्री
 - 2. अंतरराष्ट्रीय आपूर्तिकर्ताओं से खरीदी गई सामग्री
 - 3. ऐसी सामग्री जिनका उपयोग केवल एक बार किया जाता है और जिसे फेंक दिया जाता है
 - 4. स्थानीय संसाधनों से न्यूनतम व्यय पर निर्मित सामग्री

Question ID : 4410091611688
Option 1 ID : 4410096365608
Option 2 ID : 4410096365609
Option 3 ID : 4410096365610
Option 4 ID : 4410096365607

Q.7 व्याकरण अनुवाद विधि (लैटिन/ग्रीक शिक्षण) की शास्त्रीय उत्पत्ति जर्मर की संवादी दक्षता से परे किस अंतिम लक्ष्य को प्राथमिकता देती है?

- Ans
- 1. वार्षिक रूप से विषयवार आयोजित किए जाने वाले साहित्य सराहना यांत्रिकी से परे, सहज भाषण पर केंद्रित मौखिक दक्षता अभ्यास।
 - 2. जिले भर में व्याकरण अनुवाद क्षमताओं से परे, प्रासंगिक हाव-भाव के साथ मुक्त रचना को संरक्षित करते हुए रचनात्मक कथाएं लिखना।
 - 3. रोजमर्रा की बातचीत में साहित्यिक पठन संरचना विश्लेषण से परे गहन संवादों को प्राथमिकता देना, जो त्रैमासिक कक्षा स्तर पर होता है।
 - 4. व्याकरण अनुवाद और साहित्यिक विश्लेषण क्षमताओं के माध्यम से संरचना की कार्यप्रणाली विश्व साहित्य को पढ़ना और उसकी सराहना करना।

Question ID : 4410091564133

Option 1 ID : 4410096178131

Option 2 ID : 4410096178129

Option 3 ID : 4410096178132

Option 4 ID : 4410096178130

Q.8 निम्नलिखित में से कौन-सा विकल्प, विद्यालय की प्रभावशीलता के मापन पर वितरित नेतृत्व के प्रभाव का सर्वोत्तम ढंग से मूल्यांकन करता है?

- Ans
- 1. इसके लिए सहभागी उपलब्धियों के बहुपक्षीय उपायों की आवश्यकता होती है।
 - 2. यह केवल परीक्षण परिणामों में विद्यार्थी की उपलब्धि पर केंद्रित है।
 - 3. यह केवल प्रमुख नेतृत्व के माध्यम से प्रभावशीलता का मापन करता है।
 - 4. यह प्रशासनिक दक्षता को एकमात्र संकेतक के रूप में महत्व देता है।

Question ID : 4410091681769

Option 1 ID : 4410096634452

Option 2 ID : 4410096634451

Option 3 ID : 4410096634450

Option 4 ID : 4410096634453

Q.9 जब कोई विद्यालय सामुदायिक कल्याण एजेंसियों के साथ सहयोग करता है, तो इससे विद्यालय को निम्नलिखित में से किसमें सहायता मिलती है?

- Ans
- 1. कक्षा शिक्षण को बदलने में
 - 2. केवल वार्षिक कार्यक्रमों का आयोजन करने में
 - 3. विद्यार्थियों के उत्तरदायित्व को कम करने में
 - 4. बाल विकास के लिए संसाधनों के अभिगम और सपोर्ट में

Question ID : 4410091579568

Option 1 ID : 4410096239581

Option 2 ID : 4410096239584

Option 3 ID : 4410096239583

Option 4 ID : 4410096239582

Q.10 एक शिक्षक विद्यार्थियों की समझ का आकलन करना चाहता है और उन्हें अपसारी चिंतन के लिए प्रोत्साहित करना चाहता है। उन्हें किस प्रकार के प्रश्नों का उपयोग करना चाहिए और क्यों?

- Ans
- ✓ 1. मुक्तोत्तर प्रश्न, क्योंकि वे कई समाधानों की सुविधा देते हैं।
 - ✗ 2. वस्तुनिष्ठ प्रश्न, क्योंकि वे अनुमान लगाने को प्रोत्साहित करते हैं।
 - ✗ 3. वस्तुनिष्ठ प्रश्न, क्योंकि उनके निश्चित उत्तर होते हैं।
 - ✗ 4. मुक्तोत्तर प्रश्न, क्योंकि वे रचनात्मकता को हतोत्साहित करते हैं।

Question ID : 4410091624789
Option 1 ID : 4410096417683
Option 2 ID : 4410096417685
Option 3 ID : 4410096417684
Option 4 ID : 4410096417686

Q.11 पाठ योजना के दौरान सूक्ष्म शिक्षण कौशल का उपयोग करने का प्राथमिक उद्देश्य निम्नलिखित में से कौन-सा है?

- Ans
- ✓ 1. विशिष्ट शिक्षण व्यवहारों में सुधार करना
 - ✗ 2. पारंपरिक शिक्षण विधियों को प्रतिस्थापित करना
 - ✗ 3. पाठों की विषय-वस्तु को कम करना
 - ✗ 4. अभ्यास के लिए कक्षा का आकार बढ़ाना

Question ID : 4410091623189
Option 1 ID : 4410096411468
Option 2 ID : 4410096411471
Option 3 ID : 4410096411469
Option 4 ID : 4410096411470

Q.12 अंग्रेजी भाषा शिक्षण के लिए स्मार्ट बोर्ड (smart boards) के उपयोग के संबंध में निम्नलिखित में से कौन-सा सही नहीं है?

- Ans
- ✗ 1. पर्यावरण के अनुकूल
 - ✗ 2. अन्तर्क्रियात्मक और सहभाजी
 - ✓ 3. शिक्षण कम गतिशील हो जाता है
 - ✗ 4. यह शिक्षण-अधिगम अनुभवों को बढ़ाता है

Question ID : 4410091548161
Option 1 ID : 4410096115360
Option 2 ID : 4410096115358
Option 3 ID : 4410096115359
Option 4 ID : 4410096115357

Q.13 विद्यार्थी दूसरे देश के बच्चों के साथ ऑनलाइन चर्चा में भाग लेते हैं। यह _____ को दर्शाता है।

- Ans 1. वैश्वीकरण के प्रभाव
 2. राष्ट्रीय स्तर के प्रतिबंध
 3. पर्यावरण नीति से संबंधित एक गतिविधि
 4. एक स्थानीय सामुदायिक पहल

Question ID : 4410091570150
 Option 1 ID : 4410096201598
 Option 2 ID : 4410096201599
 Option 3 ID : 4410096201600
 Option 4 ID : 4410096201597

Q.14 मान लीजिए कि आप विभिन्न पृष्ठभूमियों के विद्यार्थियों के एक समूह के लिए एक मुक्तोत्तर समस्या तैयार कर रहे हैं। समूह की विशेषताओं और आकलन का कौन-सा संयोजन अपेक्षित परिणामों को सर्वोत्तम रूप से प्राप्त करने में सहायक होगा?

- Ans 1. विभिन्न पृष्ठभूमियों वाले लघु, अर्ध-स्थायी समूह
 2. केवल अनुदेशक प्रतिपुष्टि के साथ एक-एक करके दत्तकार्य
 3. व्यक्तिगत श्रेणीकरण वाले विस्तृत, यादृच्छिक रूप से निर्धारित समूह
 4. समान पृष्ठभूमि वाले सदस्यों के समूह

Question ID : 4410091604971
 Option 1 ID : 4410096339051
 Option 2 ID : 4410096339052
 Option 3 ID : 4410096339050
 Option 4 ID : 4410096339053

Q.15 एक शिक्षक पर्यावरण अध्ययन (EVS) का ऐसा पाठ अभिकल्पित करना चाहता है, जो वैज्ञानिक अवधारणाओं को सामाजिक वास्तविकताओं से जोड़कर और सभी विद्यार्थियों की सक्रिय सहभागिता सुनिश्चित करके विद्यार्थियों को वायु प्रदूषण को समझने में सहायता कर सके। इस लक्ष्य के साथ संरेखित कौन-सा शिक्षण उपागम सबसे उपयुक्त है?

- Ans 1. पारंपरिक व्याख्यान विधि
 2. समेकित और समावेशी उपागम
 3. वैज्ञानिक उपागम
 4. संप्रत्ययात्मक प्रक्रिया उपागम

Question ID : 4410091681816
 Option 1 ID : 4410096634636
 Option 2 ID : 4410096634637
 Option 3 ID : 4410096634634
 Option 4 ID : 4410096634635

Q.16 उदारीकरण के कारण सरकारी अनुदान में कमी का सामना कर रहे किसी राज्य विश्वविद्यालय ने उच्च शुल्क वाले, स्व-वित्तपोषित पाठ्यक्रम लागू किए हैं। किस अनिवार्यता को प्राथमिकता दी जानी चाहिए?

- Ans
- 1. अनुसंधान संवर्धन (Research enhancement)
 - 2. गुणवत्तापूर्ण बुनियादी ढांचा (Quality infrastructure)
 - 3. नियामक अनुपालन (Regulatory adherence)
 - 4. संसाधन उत्पादन (Resource generation)

Question ID : 4410091551264
Option 1 ID : 4410096127351
Option 2 ID : 4410096127353
Option 3 ID : 4410096127354
Option 4 ID : 4410096127352

Q.17 EVS पाठ्यक्रम विज्ञान/सामाजिक विज्ञान श्रेणी के बजाय विस्तृत विषय वस्तु का उपयोग करता है। यह उपागम किसका समर्थन करता है?

- Ans
- 1. विशिष्टीकृत कौशल प्रशिक्षण
 - 2. न्यूनीकृत शिक्षक स्वतंत्रता
 - 3. अमूर्त गहन अवधारणा
 - 4. मुद्दों का समग्र अध्ययन

Question ID : 4410091558807
Option 1 ID : 4410096157615
Option 2 ID : 4410096157616
Option 3 ID : 4410096157613
Option 4 ID : 4410096157614

Q.18 निम्नलिखित में से किसका उपयोग निम्न लागत वाली प्रायोगिक सहायक सामग्री के रूप में किया जा सकता है?

(a) फ्यूज बल्ब (b) कार्डबोर्ड (c) माचिस की तीलियाँ

- Ans
- 1. केवल (a)
 - 2. केवल (b)
 - 3. (a), (b) और (c)
 - 4. (b) और (a)

Question ID : 4410091548124
Option 1 ID : 4410096115205
Option 2 ID : 4410096115206
Option 3 ID : 4410096115207
Option 4 ID : 4410096115208

Q.19 गामक चुनौतियों वाले विद्यार्थी को लेखन आकलन के दौरान हस्तलेखन के स्थान पर अनुक्रियाओं को टाइप करने का विकल्प दिया जाता है। यह अनुकूलन आकलन के किस सिद्धांत को सर्वोत्तम रूप से निरूपित करता है?

- Ans
- 1. योग्यता के आधार पर अपवर्जन
 - 2. विभिन्न शिक्षार्थियों की आवश्यकताओं के लिए समावेशिता
 - 3. गुणवत्ता से अधिक स्पीड पर बल
 - 4. पारंपरिक पद्धति का सख्ती से अनुपालन करना

Question ID : 4410091608948
Option 1 ID : 4410096354710
Option 2 ID : 4410096354708
Option 3 ID : 4410096354711
Option 4 ID : 4410096354709

Q.20 निम्नलिखित में से कौन-सा, पाठ योजना का एक प्रमुख उद्देश्य है?

- Ans
- 1. यह सुनिश्चित करना कि शिक्षण एक व्यवस्थित उपागम का अनुसरण करे और पाठ्यक्रम को कवर करे
 - 2. विषय पाठ्यचर्या के लिए एक ढांचा प्रदान करना
 - 3. कक्षा-कक्ष में एक पेशेवर प्रशिक्षक के रूप में दिखना
 - 4. कक्षा-कक्ष अनुदेश को पूर्व तैयारी के बिना पूरी तरह से लचीला रखना

Question ID : 4410091579689
Option 1 ID : 4410096240061
Option 2 ID : 4410096240062
Option 3 ID : 4410096240063
Option 4 ID : 4410096240064

Section : Discipline5

Q.1 गणित के पाठ के संदर्भ में वाइगोत्स्की के सिद्धांत (Vygotsky's theory) में उल्लिखित समीपस्थ विकास क्षेत्र (ZPD) का क्या अर्थ है?

- Ans
- 1. शिक्षार्थियों द्वारा पुराने ज्ञान को त्यक्त करने की अवस्था
 - 2. शिक्षार्थियों द्वारा संकेतों और समर्थन के साथ समस्याओं का समाधान करने की अवस्था
 - 3. शिक्षार्थियों द्वारा नयी अवधारणाओं को कंठस्थ करने की अवस्था
 - 4. शिक्षार्थियों द्वारा स्वतंत्र रूप से समस्याओं का समाधान करने की अवस्था

Question ID : 4410091639181
Option 1 ID : 4410096474300
Option 2 ID : 4410096474298
Option 3 ID : 4410096474299
Option 4 ID : 4410096474297

Q.2 गंभीर वित्तीय बाधाओं का सामना करते हुए, एक विज्ञान शिक्षक को अधिगम की सामग्री के लिए किन संसाधन मानदंडों को प्राथमिकता देनी चाहिए?

- Ans
- 1. उच्च तकनीकी निष्ठा
 - 2. पाठ्यचर्या का सख्त संरेखण
 - 3. आर्थिक व्यवहार्यता और सुरक्षा
 - 4. सार्वभौमिक विषय प्रासंगिकता

Question ID : 4410091551599
 Option 1 ID : 4410096129032
 Option 2 ID : 4410096129034
 Option 3 ID : 4410096129031
 Option 4 ID : 4410096129033

Q.3 कक्षा-कक्ष में विद्यार्थी-शिक्षक अंतःक्रिया किस प्रकार जेंडर अभिनति (gender biases) को बढ़ावा दे सकती है?

- Ans
- 1. शिक्षक कक्षा-कक्ष में जेंडर भूमिकाओं को कभी प्रभावित नहीं करते हैं
 - 2. शिक्षक किसी एक जेंडर पर अधिक ध्यान दे सकते हैं
 - 3. शिक्षक केवल निर्धारित पाठ्यक्रम सामग्री पर ही फोकस करते हैं
 - 4. शिक्षक सदैव सभी विद्यार्थियों के साथ एक जैसा व्यवहार करते हैं

Question ID : 4410091688018
 Option 1 ID : 4410096658861
 Option 2 ID : 4410096658859
 Option 3 ID : 4410096658860
 Option 4 ID : 4410096658858

Q.4 कौन-सी शिक्षण विधि, विद्यार्थियों को व्यावहारिक क्रियाकलापों में शामिल करके गणित सीखने के लिए प्रोत्साहित करती है?

- Ans
- 1. रटन अधिगम विधि (Rote Learning method)
 - 2. क्रियाकलाप आधारित उपागम (Activity Based approach)
 - 3. ड्रिल और प्रैक्टिस उपागम (Drill and Practice approach)
 - 4. व्याख्यान विधि (Lecture method)

Question ID : 4410091687904
 Option 1 ID : 4410096658404
 Option 2 ID : 4410096658402
 Option 3 ID : 4410096658405
 Option 4 ID : 4410096658403

Q.5 निम्नलिखित में से किस तकनीक का उपयोग सामान्यतः विद्यार्थियों के भाषा कौशल का आकलन करने के लिए किया जाता है?

- Ans
- 1. आरेख बनाना
 - 2. मौखिक साक्षात्कार
 - 3. सुमेलन अभ्यास
 - 4. प्रायोगिक परीक्षा

Question ID : 4410091627666
Option 1 ID : 4410096428880
Option 2 ID : 4410096428878
Option 3 ID : 4410096428877
Option 4 ID : 4410096428879

Q.6 निम्नलिखित में से कौन-सा पठन, लेखन या गणित में विशिष्ट अधिगम अशक्तता वाले बच्चे का सर्वोत्तम वर्णन करता है?

- Ans
- 1. सामान्य बुद्धि के बावजूद एक या अधिक शैक्षणिक कौशल में कठिनाई वाला बच्चा
 - 2. कक्षा में व्यवहार संबंधी समस्याओं वाला बच्चा
 - 3. केवल विलंबित सामाजिक विकास वाला बच्चा
 - 4. स्कूल में उपस्थिति को प्रभावित करने वाला शारीरिक असमर्थता वाला बच्चा

Question ID : 4410091551131
Option 1 ID : 4410096126765
Option 2 ID : 4410096126764
Option 3 ID : 4410096126763
Option 4 ID : 4410096126766

Q.7 एक विद्यालय शारीरिक रूप से दिव्यांग विद्यार्थियों के लिए रैंप की सुविधा और विशेष बैठने की व्यवस्था उपलब्ध कराता है। यह निम्नलिखित में से किसका उदाहरण है?

- Ans
- 1. प्रतीकवाद (Tokenism)
 - 2. पृथक्करण (Segregation)
 - 3. बहिष्करण (Exclusion)
 - 4. समावेशन (Inclusion)

Question ID : 4410091693158
Option 1 ID : 4410096678708
Option 2 ID : 4410096678707
Option 3 ID : 4410096678705
Option 4 ID : 4410096678706

Q.8 क्रियाकलाप-आधारित और रचनावादी उपगमों को संयोजित करने से विद्यार्थियों को गणित के अधिगम में कैसे लाभ प्राप्त होता है?

- Ans
- 1. यह विद्यार्थियों को केवल लिखित परीक्षाओं पर ध्यान केंद्रित करने के लिए प्रेरित करता है।
 - 2. यह विद्यार्थियों को अर्थबोध के बिना तथ्यों के त्वरित स्मरण में सहायता करता है।
 - 3. यह विद्यार्थियों को समूह कार्य के वर्जन के लिए प्रोत्साहित करता है।
 - 4. यह विद्यार्थियों को वास्तविक जीवन की स्थितियों में ज्ञान को प्रयुक्त करने में सहायता करता है।

Question ID : 4410091639168
Option 1 ID : 4410096474248
Option 2 ID : 4410096474245
Option 3 ID : 4410096474247
Option 4 ID : 4410096474246

Q.9 निम्नलिखित में से कौन-सी कक्षा कार्यनीति समूह गतिविधियों के दौरान जेंडर संबंधी रूढ़धारणाओं को दूर करने के लिए सबसे उपयुक्त मानी जाती है?

- Ans
- 1. जेंडर-आधारित बैठने की व्यवस्था का उपयोग करना
 - 2. केवल लड़कियों को ही सहायक के रूप में नियुक्त करना
 - 3. बारी-बारी से नेतृत्व भूमिकाएं देना
 - 4. समूह गतिकी को अनदेखा करना

Question ID : 4410091635756
Option 1 ID : 4410096461014
Option 2 ID : 4410096461011
Option 3 ID : 4410096461012
Option 4 ID : 4410096461013

Q.10 कौन-सा कथन समाज में पुरुषत्व और स्त्रीत्व की सामाजिक रचना को सर्वोत्तम रूप से दर्शाता है?

- Ans
- 1. मीडिया में विविध जेंडर अभिव्यक्तियों को मान्यता देना
 - 2. लड़कों से हठ-धर्मी होने और लड़कियों से पालन-पोषण करने की अपेक्षा करना
 - 3. सभी विद्यार्थियों में आत्म-अभिव्यक्ति को प्रोत्साहित करना
 - 4. जेंडर की अनदेखी करते हुए समान अवसरों को बढ़ावा देना

Question ID : 4410091639007
Option 1 ID : 4410096473594
Option 2 ID : 4410096473593
Option 3 ID : 4410096473596
Option 4 ID : 4410096473595

Q.11 पितृंत्र में निम्नलिखित में से क्या शामिल है?

- Ans
- 1. एक ऐसी व्यवस्था जहां महिलाओं का प्रभुत्व है।
 - 2. एक ऐसी व्यवस्था जो केवल पारिवारिक परंपराओं पर आधारित है।
 - 3. एक ऐसी व्यवस्था जहां पुरुष और महिलाएं समान हैं।
 - 4. एक ऐसी व्यवस्था जहां पुरुषों का प्रभुत्व है।

Question ID : 4410091603567
Option 1 ID : 4410096333465
Option 2 ID : 4410096333467
Option 3 ID : 4410096333464
Option 4 ID : 4410096333466

Q.12 एक शिक्षक ने देखा कि अल्पसंख्यक भाषायी समूह के विद्यार्थियों को लगातार कम जटिल कार्य दिए जाते हैं और कक्षा की गतिविधियों में नेतृत्व की भूमिकाओं से वंचित (excluded) रखा जाता है। यह स्थिति मुख्य रूप से क्या निरूपित करती है?

- Ans
- 1. जेंडर-आधारित समावेशन
 - 2. दिव्यांगता-आधारित समावेशन
 - 3. सांस्कृतिक बहिष्कार
 - 4. सामाजिक-आर्थिक समावेशन

Question ID : 4410091695060
Option 1 ID : 4410096686309
Option 2 ID : 4410096686312
Option 3 ID : 4410096686311
Option 4 ID : 4410096686310

Q.13 ब्लूम के वर्गीकरण का कौन-सा प्रक्षेत्र (domain) अभिवृत्ति और मूल्यों से सबसे अधिक संबंधित है?

- Ans
- 1. मनोगामक
 - 2. भावात्मक
 - 3. संज्ञानात्मक
 - 4. व्यावहारिक

Question ID : 4410091635674
Option 1 ID : 4410096460701
Option 2 ID : 4410096460700
Option 3 ID : 4410096460699
Option 4 ID : 4410096460702

Q.14 निम्नलिखित में से कौन-सा विद्यालय-संबंधी अवयव, लैंगिक रूढ़िवादिता को पुनः उत्पन्न कर सकता है?

- Ans
- 1. विद्यालय अवसंरचना, जो बुनियादी सुरक्षा मानकों को पूरा करने के लिए डिज़ाइन की गई है
 - 2. समय-सारिणी का आवंटन, जो एक समान शिक्षण घंटों का पालन करता है
 - 3. मूल्यांकन पद्धतियों, जो सभी छात्रों पर समान मानदंड लागू करती हैं
 - 4. पाठ्यचर्या की पाठ्यपुस्तकें, जो लैंगिक भूमिकाओं और अपेक्षाओं को दर्शाती हैं

Question ID : 4410091638240
Option 1 ID : 4410096470647
Option 2 ID : 4410096470646
Option 3 ID : 4410096470645
Option 4 ID : 4410096470644

Q.15 मूल्यांकन कीजिए की निम्नलिखित में से कौन-सी कक्षा गतिविधि सर्वोत्तम रूप से इस ज्ञानात्मकीय (epistemological) विश्वास को प्रतिबिंबित करती है कि गणितीय ज्ञान सामाजिक रूप से निर्मित और शिक्षार्थियों के मध्य वार्ता से तय होता है।

- Ans
- 1. व्यक्तिगत मूक अभ्यास कार्यपत्रक
 - 2. शिक्षकों द्वारा प्रक्रियाओं का निदर्शन
 - 3. सहयोगात्मक समस्या समाधान और चर्चा
 - 4. समयबद्ध स्वतंत्र परिकलन कार्य

Question ID : 4410091626508
Option 1 ID : 4410096424405
Option 2 ID : 4410096424406
Option 3 ID : 4410096424404
Option 4 ID : 4410096424407

Q.16 कौन-सा कौशल, उच्चरित भाषा को समझने पर केंद्रित है?

- Ans
- 1. पठन (Reading)
 - 2. वाक् (Speaking)
 - 3. लेखन (Writing)
 - 4. श्रवण (Listening)

Question ID : 4410091669655
Option 1 ID : 4410096589507
Option 2 ID : 4410096589506
Option 3 ID : 4410096589504
Option 4 ID : 4410096589505

Q.17 निम्नलिखित में से कौन-सा विकल्प, विज्ञान की प्रकृति को सर्वोत्तम रूप से परिभाषित करता है?

- Ans 1. अवलोकन, प्रयोग और तर्क का उपयोग करके व्यवस्थित अध्ययन
 2. अपरीक्षित मान्यताओं और मतों का संग्रह
 3. व्यावहारिक गतिविधियों के बिना केवल पाठ्यपुस्तकों के माध्यम से सीखना
 4. तथ्यों को बिना समझे स्मरण करना

Question ID : 4410091553767
Option 1 ID : 4410096137740
Option 2 ID : 4410096137739
Option 3 ID : 4410096137742
Option 4 ID : 4410096137741

Q.18 NEP 2020, _____ जेंडर असमानता का समाधान करती है।

- Ans 1. शिक्षक प्रशिक्षण कार्यक्रमों को कम करके
 2. लड़कियों को कला विषयों तक सीमित करके
 3. जेंडर इंकलूजन फंड (GIF) बनाकर
 4. केवल शहरी विद्यालयों के निधीयन को प्राथमिकता देकर

Question ID : 4410091564671
Option 1 ID : 4410096180260
Option 2 ID : 4410096180262
Option 3 ID : 4410096180261
Option 4 ID : 4410096180263

Q.19 बहुभाषी कक्षा में स्वनिक (phonetic) जागरूकता को प्रोत्साहित करने के लिए निम्नलिखित में से कौन-सी शिक्षण सहायक सामग्री सबसे उपयुक्त है?

- Ans 1. ऑडियो रिकॉर्डिंग
 2. चार्ट
 3. मुद्रित कहानियां
 4. फ्लैशकार्ड

Question ID : 4410091635710
Option 1 ID : 4410096460828
Option 2 ID : 4410096460829
Option 3 ID : 4410096460830
Option 4 ID : 4410096460827

Q.20 इको क्लब (Eco Clubs) विद्यार्थियों को पर्यावरण- समर्थक व्यवहार विकसित करने में कैसे सहायता करते हैं?

- Ans
- 1. सतत विकास या पर्यावरण से असंबंधित प्रतियोगिताओं का आयोजन करके
 - 2. विद्यार्थियों को केवल कक्षा-आधारित सैद्धांतिक पाठों तक सीमित करके
 - 3. परियोजनाओं में व्यावहारिक अंतर्भागिता के बिना पुनःचक्रण का अध्यापन करके
 - 4. मिशन लाइफ (LiFE) के साथ संरेखित पर्यावरण के अनुकूल गतिविधियों में भाग लेकर

Question ID : 4410091572499

Option 1 ID : 4410096210927

Option 2 ID : 4410096210925

Option 3 ID : 4410096210926

Option 4 ID : 4410096210924

