



GOVT. OF NCT OF DELHI
Delhi Subordinate Services Selection Board
FC-18, Institutional Area, Karkardooma, Delhi – 110092.
www.dsssb.delhigovt.nic.in

Participant ID	[REDACTED]
Participant Name	[REDACTED]
Test Center Name	iON Digital Zone iDZ 2 Sector 62
Test Date	20/02/2026
Test Time	1:00 PM - 3:00 PM
Subject	Assistant Teacher Primary

Section : General Intelligence and Reasoning Ability

Q.1 दी गई शृंखला को तार्किक रूप से पूर्ण बनाने के लिए, प्रश्न-चिह्न (?) को निम्नलिखित में से किस अक्षर-संख्या समूह द्वारा प्रतिस्थापित किया जाना चाहिए?

RIF16, TKH37, VMJ58, XOL79, ?

- Ans
- 1. TQN100
 - 2. ZON100
 - 3. ZQN100
 - 4. ZQM100

Question ID : 4410091614453
Option 1 ID : 4410096376632
Option 2 ID : 4410096376630
Option 3 ID : 4410096376629
Option 4 ID : 4410096376631

Q.2 छह बॉक्स K, L, M, N, O और P एक के ऊपर एक रखे गए हैं लेकिन जरूरी नहीं कि वे इसी क्रम में हों। M को नीचे से दूसरे स्थान पर रखा गया है। P और M के बीच केवल तीन बॉक्स रखे गए हैं। N और O के बीच केवल दो बॉक्स रखे गए हैं। O को सबसे नीचे नहीं रखा गया है। K को M के ऊपर किसी एक स्थान पर रखा गया है, लेकिन O के नीचे किसी एक स्थान पर रखा गया है। कौन-सा बॉक्स ऊपर से दूसरे स्थान पर रखा गया है?

- Ans
- 1. P
 - 2. O
 - 3. N
 - 4. L

Question ID : 441009216661
Option 1 ID : 441009850683
Option 2 ID : 441009850686
Option 3 ID : 441009850685
Option 4 ID : 441009850684

Adda247

Test Prime

ALL EXAMS, ONE SUBSCRIPTION



1,00,000+
Mock Tests



**Personalised
Report Card**



**Unlimited
Re-Attempt**



600+
Exam Covered



25,000+ Previous
Year Papers



500%
Refund



ATTEMPT FREE MOCK NOW

Q.3 एक निश्चित तर्क का अनुसरण करने पर, 18 का संबंध 59 से है। समान तर्क का अनुसरण करने पर, 12 का संबंध 41 से है। समान तर्क का अनुसरण करने पर, 22 का संबंध निम्नलिखित में से किससे है? (नोट: संख्याओं को उनके घटक अंकों में तोड़े बिना संक्रियाएँ केवल पूर्ण संख्याओं पर की जानी चाहिए। उदाहरण के लिए, 13 लीजिए - 13 पर संक्रियाएँ, जैसे 13 में जोड़ना/घटाना/गुणा करना, की जा सकती हैं। 13 को 1 और 3 में तोड़ना तथा फिर 1 और 3 पर गणितीय संक्रियाएँ करने की अनुमति नहीं है।)

- Ans
- 1. 63
 - 2. 51
 - 3. 81
 - 4. 71

Question ID : 441009552475
Option 1 ID : 4410092165216
Option 2 ID : 4410092165217
Option 3 ID : 4410092165214
Option 4 ID : 4410092165215

Q.4 एक निश्चित कूट भाषा में, 'COLD' को '5142' के रूप में कूटबद्ध किया जाता है और 'LOAD' को '4132' के रूप में कूटबद्ध किया जाता है। उस भाषा में 'A' के लिए कूट क्या होगा?

- Ans
- 1. 4
 - 2. 1
 - 3. 3
 - 4. 5

Question ID : 4410091619036
Option 1 ID : 4410096395019
Option 2 ID : 4410096395018
Option 3 ID : 4410096395016
Option 4 ID : 4410096395017

Q.5 निम्नलिखित अक्षर श्रृंखला का संदर्भ लीजिए और नीचे दिए गए प्रश्न का उत्तर दीजिए। गिनती केवल बाएँ से दाएँ की जानी चाहिए।

(बाएँ) B Y Z O U K X W G T D F H A Q M R E S I C (दाएँ)

ऐसे कितने व्यंजन हैं, जिनमें से प्रत्येक के ठीक पहले एक व्यंजन और ठीक बाद एक स्वर आता है?

- Ans
- 1. 2
 - 2. 4
 - 3. 1
 - 4. 3

Question ID : 441009216396
Option 1 ID : 441009849624
Option 2 ID : 441009849626
Option 3 ID : 441009849623
Option 4 ID : 441009849625

Q.6 दी गई श्रृंखला का संदर्भ लीजिए तथा दिए गए प्रश्न का उत्तर दीजिए। गिनती केवल बाएँ से दाएँ की जानी है। सभी संख्याएँ एक-अंकीय संख्याएँ हैं।

(बाएँ) 1 2 1 2 4 2 1 6 2 1 6 1 1 6 1 3 5 6 1 2 8 6 6 4 9 2 6 (दाएँ)

ऐसी कितनी विषम संख्याएँ हैं, जिनमें से प्रत्येक के ठीक पहले एक विषम संख्या है तथा ठीक बाद में एक सम संख्या है?

- Ans
- 1. 3
 - 2. 2
 - 3. 4
 - 4. 1

Question ID : 441009792682
Option 1 ID : 4410093124728
Option 2 ID : 4410093124727
Option 3 ID : 4410093124730
Option 4 ID : 4410093124729

Q.7 दी गई श्रृंखला में प्रश्न-चिह्न (?) के स्थान पर क्या आना चाहिए?
17, 21, 29, 41, 57, ?

- Ans
- 1. 73
 - 2. 71
 - 3. 77
 - 4. 75

Question ID : 441009216194
Option 1 ID : 441009848816
Option 2 ID : 441009848815
Option 3 ID : 441009848818
Option 4 ID : 441009848817

Q.8 यदि 'A' का अर्थ '+' है, 'B' का अर्थ 'x' है, 'C' का अर्थ '+' है और 'D' का अर्थ '-' है, तो निम्नलिखित समीकरण में प्रश्न-चिह्न '?' के स्थान पर क्या आएगा?
10 B 5 D 7 A 1 C 4 = ?

- Ans
- 1. 44
 - 2. 39
 - 3. 50
 - 4. 47

Question ID : 4410091606213
Option 1 ID : 4410096343878
Option 2 ID : 4410096343877
Option 3 ID : 4410096343879
Option 4 ID : 4410096343876

Q.9 अंग्रेजी वर्णमाला क्रम पर आधारित, निम्नलिखित चार अक्षर-समूह युग्मों में से तीन एक निश्चित प्रकार से समान हैं और इस प्रकार वे एक ग्रुप बनाते हैं। कौन-सा अक्षर-समूह युग्म, उस ग्रुप से संबंधित नहीं है? (नोट: असंगत अक्षर-समूह युग्म, व्यंजनों/स्वरों की संख्या या उनकी स्थिति पर आधारित नहीं है।)

- Ans
- 1. CG-JN
 - 2. RV-YC
 - 3. LP-SW
 - 4. SW-YF

Question ID : 441009807167
Option 1 ID : 4410093182793
Option 2 ID : 4410093182792
Option 3 ID : 4410093182794
Option 4 ID : 4410093182791

Q.10 यदि जल स्रोत को चित्र में दिखाए अनुसार M-N दिशा के अनुदिश रखा जाए, तो दिए गए विकल्पों में से कौन-सा विकल्प चित्र का जल प्रतिबिंब होगा?



Ans

1.



2.



3.



4.



Question ID : 441009864926
Option 1 ID : 4410093412806
Option 2 ID : 4410093412807
Option 3 ID : 4410093412805
Option 4 ID : 4410093412804

Q.11 A, B, C, D, I, J और K में से प्रत्येक की परीक्षा सोमवार से शुरू होकर रविवार को समाप्त होने वाले एक ही सप्ताह के अलग-अलग दिन है। K और I के बीच केवल दो व्यक्तियों की परीक्षा है। C और A के बीच केवल दो व्यक्तियों की परीक्षा है। D और A के बीच केवल दो व्यक्तियों की परीक्षा है। D के बाद किसी की परीक्षा नहीं है। B की परीक्षा, J की परीक्षा से पहले किसी एक दिन है। I की परीक्षा, J की परीक्षा के ठीक बाद वाले दिन है। बुधवार को किसकी परीक्षा है?

- Ans
- 1. I
 - 2. C
 - 3. A
 - 4. K

Question ID : 4410091614377
 Option 1 ID : 4410096376327
 Option 2 ID : 4410096376326
 Option 3 ID : 4410096376325
 Option 4 ID : 4410096376328

Q.12 उस युग्म का चयन कीजिए जो नीचे दिए गए युग्मों के समान पैटर्न का अनुसरण करता है। दोनों युग्म समान पैटर्न का अनुसरण करते हैं।

LMK-IJH
 VWU-STR

- Ans
- 1. IIF-EFD
 - 2. IJH-FGE
 - 3. IIF-FGE
 - 4. IJH-EGD

Question ID : 441009767143
 Option 1 ID : 4410093022568
 Option 2 ID : 4410093022565
 Option 3 ID : 4410093022567
 Option 4 ID : 4410093022566

Q.13 यदि 'A' का अर्थ '+' है, 'B' का अर्थ 'x' है, 'C' का अर्थ '÷' है और 'D' का अर्थ '-' है, तो निम्नलिखित समीकरण में प्रश्न-चिह्न '?' के स्थान पर क्या आएगा?

119 C 93 A 3 B 2 D 137 = ?

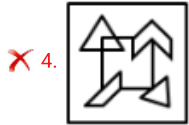
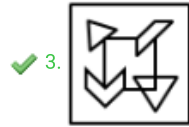
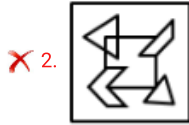
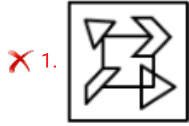
- Ans
- 1. 44
 - 2. 45
 - 3. 41
 - 4. 43

Question ID : 441009553721
 Option 1 ID : 4410092170200
 Option 2 ID : 4410092170201
 Option 3 ID : 4410092170198
 Option 4 ID : 4410092170199

Q.14 यदि एक जल स्रोत को X-Y के अनुदिश रखा जाता है, जैसा कि दिए गए चित्र में दिखाया गया है, तो दिए गए विकल्पों में से कौन-सा निम्न चित्र का जल प्रतिबिंब होगा?



Ans



Question ID : 4410091614522
Option 1 ID : 4410096376901
Option 2 ID : 4410096376902
Option 3 ID : 4410096376904
Option 4 ID : 4410096376903

Q.15 S, A का भाई है। Y, B की बहन है। W, B का पुत्र है। B, A की पत्नी है। S का W से क्या संबंध है?

- Ans
- ✓ 1. पिता का भाई
 - ✗ 2. भाई
 - ✗ 3. पिता
 - ✗ 4. पिता के पिता

Question ID : 4410091614508
Option 1 ID : 4410096376849
Option 2 ID : 4410096376852
Option 3 ID : 4410096376851
Option 4 ID : 4410096376850

Q.16 मुकेश कक्षा में ऊपर से 15वें स्थान पर तथा नीचे से 33वें स्थान पर है। कक्षा में कितने विद्यार्थी हैं?

- Ans 1. 47
 2. 49
 3. 48
 4. 46

Question ID : 441009216727
 Option 1 ID : 441009850947
 Option 2 ID : 441009850950
 Option 3 ID : 441009850949
 Option 4 ID : 441009850948

Q.17 शब्द QUAKIOR के प्रत्येक स्वर को अंग्रेजी वर्णमाला क्रम में उसके ठीक बाद वाले अक्षर से बदल दिया जाता है और प्रत्येक व्यंजन को अंग्रेजी वर्णमाला क्रम में उसके ठीक पहले वाले अक्षर से बदल दिया जाता है। इस प्रकार बने अक्षरों के समूह में कितने अक्षर ठीक दो बार आएंगे?

- Ans 1. एक
 2. एक भी नहीं
 3. दो
 4. तीन

Question ID : 441009788082
 Option 1 ID : 4410093106328
 Option 2 ID : 4410093106327
 Option 3 ID : 4410093106329
 Option 4 ID : 4410093106330

Q.18 अंग्रेजी वर्णमाला क्रम के आधार पर, निम्नलिखित चार अक्षर-समूहों में से तीन एक निश्चित तरीके से एकसमान हैं और इस प्रकार वे एक गुप बनाते हैं। कौन-सा अक्षर-समूह उस गुप से संबंधित नहीं है? (नोट: असंगत अक्षर-समूह, उसमें व्यंजनों/स्वरों की संख्या या उनकी स्थिति पर आधारित नहीं है।)

- Ans 1. IKH
 2. CEB
 3. MOL
 4. QSO

Question ID : 441009782236
 Option 1 ID : 4410093082948
 Option 2 ID : 4410093082947
 Option 3 ID : 4410093082949
 Option 4 ID : 4410093082950

Q.19 निम्नलिखित अक्षर और प्रतीक श्रृंखला का संदर्भ लीजिए और प्रश्न का उत्तर दीजिए। गिनती केवल बाएँ से दाएँ की जानी है।
(बाएँ) % M € S B * * £ B T O £ B K £ @ € V F & H € (दाएँ)
ऐसे कितने अक्षर हैं, जिनमें से प्रत्येक के ठीक पहले एक अक्षर और ठीक बाद में एक प्रतीक है?

- Ans
- 1. 3
 - 2. 6
 - 3. 5
 - 4. 4

Question ID : 441009795655
Option 1 ID : 4410093136621
Option 2 ID : 4410093136622
Option 3 ID : 4410093136620
Option 4 ID : 4410093136619

Q.20 सात व्यक्ति, D, A, N, U, B, E और S, एक पंक्ति में उत्तर दिशा की ओर अभिमुख होकर बैठे हैं। S के बाएँ ओर केवल E बैठा है। E और N के बीच केवल चार व्यक्ति बैठे हैं। A और U के बीच केवल D बैठा है तथा A, N का निकटतम पड़ोसी नहीं है। पंक्ति के दाएँ छोर पर कौन बैठा है?

- Ans
- 1. D
 - 2. S
 - 3. B
 - 4. U

Question ID : 4410091618826
Option 1 ID : 4410096394176
Option 2 ID : 4410096394179
Option 3 ID : 4410096394178
Option 4 ID : 4410096394177

Section : General Awareness

Q.1 सितंबर 2025 में, शंघाई सहयोग संगठन (SCO) का 25वां शिखर सम्मेलन कहाँ आयोजित किया गया था?

- Ans
- 1. बीजिंग, चीन
 - 2. मास्को, रूस
 - 3. नई दिल्ली, भारत
 - 4. तियानजिन, चीन

Question ID : 4410091561065
Option 1 ID : 4410096166431
Option 2 ID : 4410096166433
Option 3 ID : 4410096166430
Option 4 ID : 4410096166432

Q.2 निम्नलिखित में से किस पांड्य सम्राट ने चालुक्य शासक विक्रमादित्य द्वितीय के साथ मिलकर कई बार नंदीवर्मन द्वितीय पर विजय प्राप्त करने के बाद पल्लव भंजन की उपाधि धारण की?

- Ans
- 1. सुंदर पांड्य
 - 2. जटिल परांतक श्रीवल्लभ
 - 3. मारवर्मन राजसिंह प्रथम
 - 4. वरगुण द्वितीय

Question ID : 4410091551367
Option 1 ID : 4410096127826
Option 2 ID : 4410096127824
Option 3 ID : 4410096127823
Option 4 ID : 4410096127825

Q.3 भारत सरकार द्वारा 'प्रधानमंत्री गरीब कल्याण अन्न योजना (PM-GKAY)' निम्नलिखित में से किस वर्ष में प्रारंभ किया गया था?

- Ans
- 1. 2015
 - 2. 2022
 - 3. 2020
 - 4. 2017

Question ID : 441009637585
Option 1 ID : 4410092504483
Option 2 ID : 4410092504486
Option 3 ID : 4410092504485
Option 4 ID : 4410092504484

Q.4 _____, प्राथमिक पादप निकाय की सबसे बाहरी परत है।

- Ans
- 1. एपिडर्मिस (epidermis)
 - 2. एंडोडर्मिस (endodermis)
 - 3. हाइपोडर्मिस (hypodermis)
 - 4. पेरीसाइकिल (pericycle)

Question ID : 441009509345
Option 1 ID : 4410091992539
Option 2 ID : 4410091992540
Option 3 ID : 4410091992538
Option 4 ID : 4410091992541

Q.5 निम्नलिखित में से किसे मणिपुरी नृत्य के लिए संगीत नाटक अकादमी अवॉर्ड 2020 प्राप्त हुआ?

- Ans
- 1. भूषण लकन्द्री
 - 2. त्रिलोचन मोहंता
 - 3. श्रुति बंदोपाध्याय
 - 4. प्रेमा राममूर्ति

Question ID : 441009607638
Option 1 ID : 4410092385672
Option 2 ID : 4410092385671
Option 3 ID : 4410092385669
Option 4 ID : 4410092385670

Q.6 भारत में ब्रिटिश शासन के दौरान किस प्रकार के बुनियादी ढांचे को प्राथमिकता दी गई थी?

- Ans
- 1. स्वास्थ्य देखभाल सुविधाएं
 - 2. व्यापार के लिए परिवहन और संचार
 - 3. ग्रामीण विद्युतीकरण
 - 4. शैक्षिक बुनियादी ढांचा

Question ID : 441009510659
Option 1 ID : 4410091997796
Option 2 ID : 4410091997794
Option 3 ID : 4410091997797
Option 4 ID : 4410091997795

Q.7 केंद्रीय जांच ब्यूरो (CBI) द्वारा इंटरपोल (INTERPOL) की तर्ज पर विकसित उस पोर्टल का नाम क्या है, जो एक बटन के क्लिक पर सभी वांछित आरोपियों के रिकॉर्ड को एक्सेस करने की सुविधा प्रदान करता है?

- Ans
- 1. LOOPPOL
 - 2. SHIVPOL
 - 3. INDIAPOL
 - 4. BHARATPOL

Question ID : 441009501517
Option 1 ID : 4410091961240
Option 2 ID : 4410091961241
Option 3 ID : 4410091961238
Option 4 ID : 4410091961239

Q.8 Which of the following powers does the Supreme Court have regarding laws passed by the legislature?

- Ans
- 1. The power to veto
 - 2. The power to review
 - 3. The power to enforce
 - 4. The power to amend

Question ID : 441009501973
Option 1 ID : 4410091963065
Option 2 ID : 4410091963063
Option 3 ID : 4410091963064
Option 4 ID : 4410091963062

Q.9 भारत सरकार द्वारा 1979 में गठित टास्क फोर्स की 'न्यूनतम आवश्यकताओं और प्रभावी उपभोग मांग के अनुमान' के अनुसार गरीबी रेखा को कैसे परिभाषित किया गया था?

- Ans
- 1. साक्षरता दर के आधार पर
 - 2. प्रति व्यक्ति उपभोग व्यय के आधार पर
 - 3. बेरोजगारी दर के आधार पर
 - 4. आय स्तर के आधार पर

Question ID : 441009637461
Option 1 ID : 4410092503988
Option 2 ID : 4410092503989
Option 3 ID : 4410092503990
Option 4 ID : 4410092503987

Q.10 निम्नलिखित में से सही युग्म (रेलवे जोन और उनके मुख्यालय) की पहचान करें।

- Ans
- 1. पूर्वी मध्य रेलवे जोन - गोरखपुर
 - 2. मध्य रेलवे जोन - मुंबई CST
 - 3. उत्तर मध्य रेलवे जोन - हाजीपुर
 - 4. दक्षिण मध्य रेलवे जोन - चेन्नई

Question ID : 441009638796
Option 1 ID : 4410092509328
Option 2 ID : 4410092509327
Option 3 ID : 4410092509329
Option 4 ID : 4410092509330

Q.11 राष्ट्रपति संसद द्वारा पारित विधेयक को पुनर्विचार के लिए कितनी बार वापस भेज सकता है?

- Ans
- 1. केवल एक बार
 - 2. चार बार
 - 3. तीन बार
 - 4. चार बार से अधिक

Question ID : 4410091119138
Option 1 ID : 4410094412445
Option 2 ID : 4410094412443
Option 3 ID : 4410094412442
Option 4 ID : 4410094412444

Q.12 ISA काउंसिल ऑफ नेशनल एसोसिएशंस कॉन्फ्रेंस 2025 का आयोजन किस भारतीय विश्वविद्यालय में किया गया था?

- Ans
- 1. अशोका विश्वविद्यालय, सोनीपत
 - 2. JNU, नई दिल्ली
 - 3. IIM अहमदाबाद
 - 4. FLAME विश्वविद्यालय, पुणे

Question ID : 4410091564530
Option 1 ID : 4410096179695
Option 2 ID : 4410096179693
Option 3 ID : 4410096179696
Option 4 ID : 4410096179694

Q.13 निम्नलिखित में किस महिला पार्श्व गायिका ने 2025 में फिल्मफेयर पुरस्कार जीता?

- Ans
- 1. कविता सेठ
 - 2. मधुबंती बागची
 - 3. जाह्नवी श्रीमांकर
 - 4. मोनाली ठाकुर

Question ID : 441009608200
Option 1 ID : 4410092387920
Option 2 ID : 4410092387918
Option 3 ID : 4410092387919
Option 4 ID : 4410092387917

Q.14 मेहरुत्रिसा का विवाह सम्राट जहाँगीर से किस वर्ष हुआ था?

- Ans
- 1. 1631
 - 2. 1619
 - 3. 1621
 - 4. 1611

Question ID : 441009205151
Option 1 ID : 441009806828
Option 2 ID : 441009806826
Option 3 ID : 441009806827
Option 4 ID : 441009806825

Q.15 निम्नलिखित में से किस फाइला में खंडीभवन (segmentation) नहीं होता है?

- Ans
- 1. कॉर्डेटा (Chordata)
 - 2. मोलस्का (Mollusca)
 - 3. ऐनेलिडा (Annelida)
 - 4. आर्थ्रोपोडा (Arthropoda)

Question ID : 441009646693
Option 1 ID : 4410092540890
Option 2 ID : 4410092540889
Option 3 ID : 4410092540887
Option 4 ID : 4410092540888

Q.16 रक्षा उत्कृष्टता के लिए नवाचार ढांचे के अंतर्गत अक्टूबर 2025 में शुरू की गई किस सरकारी पहल का उद्देश्य ₹25 करोड़ तक के अनुदान की पेशकश करके रक्षा प्रौद्योगिकी स्टार्टअप्स के बीच नवाचार को प्रोत्साहित करना था?

- Ans
- 1. इनोवेट4डिफेंस (Innovate4Defence)
 - 2. मिशन स्वावलंबन (Mission Swavalamban)
 - 3. डिफेंस स्टार्टअप रिवोल्यूशन (Defence Startup Revolution)
 - 4. iDEX (ADITI 2.0)

Question ID : 4410091564744
Option 1 ID : 4410096180547
Option 2 ID : 4410096180550
Option 3 ID : 4410096180549
Option 4 ID : 4410096180548

Q.17 अखिल भारतीय मुस्लिम लीग की स्थापना 1906 में निम्नलिखित में से किस शहर में हुई थी?

- Ans 1. ढाका
 2. कलकत्ता (कोलकाता)
 3. लखनऊ
 4. बॉम्बे (मुंबई)

Question ID : 441009367466
Option 1 ID : 4410091435821
Option 2 ID : 4410091435819
Option 3 ID : 4410091435820
Option 4 ID : 4410091435818

Q.18 2024-25 सत्र के दौरान निम्नलिखित में से किस राज्य की क्रिकेट टीम 74 वर्षों में पहली बार रणजी ट्रॉफी के फाइनल में पहुंची?

- Ans 1. महाराष्ट्र
 2. कर्नाटक
 3. केरल
 4. तमिलनाडु

Question ID : 441009128259
Option 1 ID : 441009509657
Option 2 ID : 441009509654
Option 3 ID : 441009509656
Option 4 ID : 441009509655

Q.19 टोक्यो में, वर्ल्ड एथलेटिक्स चैंपियनशिप 2025 में सबसे अधिक स्वर्ण पदक जीतकर किस देश ने नया रिकॉर्ड बनाया?

- Ans 1. USA
 2. केन्या
 3. चीन
 4. ग्रेट ब्रिटेन

Question ID : 4410091563031
Option 1 ID : 4410096173687
Option 2 ID : 4410096173688
Option 3 ID : 4410096173689
Option 4 ID : 4410096173690

Q.20 सरकार ने 20 जून 2020 को कितने राज्यों के 116 चयनित जिलों में 125 दिनों का गरीब कल्याण रोजगार अभियान शुरू किया?

- Ans
- 1. 2
 - 2. 9
 - 3. 6
 - 4. 4

Question ID : 4410091120856
 Option 1 ID : 4410094419309
 Option 2 ID : 4410094419312
 Option 3 ID : 4410094419311
 Option 4 ID : 4410094419310

Section : Arithmetical and Numerical Ability

Q.1 एक बर्तन में दो तरल पदार्थ A और B का मिश्रण 5 : 3 के अनुपात में है। यदि मिश्रण से 15 लीटर निकालकर उसके स्थान पर तरल B डाल दिया जाए, तो नया अनुपात 3 : 2 हो जाता है। मिश्रण की प्रारंभिक मात्रा ज्ञात कीजिए।

- Ans
- 1. 285 लीटर
 - 2. 346 लीटर
 - 3. 375 लीटर
 - 4. 298 लीटर

Question ID : 441009318056
 Option 1 ID : 4410091238689
 Option 2 ID : 4410091238691
 Option 3 ID : 4410091238692
 Option 4 ID : 4410091238690

Q.2 उस बेलन का आयतन ज्ञात कीजिए जिसकी त्रिज्या 25 cm तथा ऊँचाई 119 cm है।

$$\left(\pi = \frac{22}{7} \text{ लीजिए}\right)$$

- Ans
- 1. 2,23,750 cm³
 - 2. 2,33,850 cm³
 - 3. 2,33,750 cm³
 - 4. 2,23,650 cm³

Question ID : 441009125594
 Option 1 ID : 441009499219
 Option 2 ID : 441009499222
 Option 3 ID : 441009499221
 Option 4 ID : 441009499220

Q.3 दी गई तालिका का अध्ययन कीजिए और उसके बाद दिए गए प्रश्न का उत्तर दीजिए। तालिका में एक विशेष कॉलेज में विभिन्न इंजीनियरिंग शाखाओं में निर्दिष्ट वर्षों के दौरान छात्रों के नामांकन का विवरण दिया गया है।

वर्ष	इंजीनियरिंग शाखाएं					
	CSE	IT	सिविल	EEE	ECE	कुल
2015	75	144	114	102	108	543
2016	90	126	102	84	126	528
2017	96	114	75	105	135	525
2018	105	90	150	90	75	510
2019	90	75	135	75	90	465
2020	105	60	165	45	120	495
2021	115	85	180	100	145	605

वर्ष 2015 से 2021 तक, CSE और सिविल शाखाओं में छात्रों के नामांकन में अंतर ज्ञात कीजिए।

- Ans
- 1. 225
 - 2. 255
 - 3. 235
 - 4. 245

Question ID : 441009960857
 Option 1 ID : 4410093796804
 Option 2 ID : 4410093796806
 Option 3 ID : 4410093796803
 Option 4 ID : 4410093796805

Q.4 18 व्यक्ति किसी कार्य को 6 दिन में पूरा कर सकते हैं। 15 व्यक्ति उसी कार्य को कितने दिन में पूरा कर सकते हैं?

- Ans
- 1. 7.2
 - 2. 7.5
 - 3. 7.3
 - 4. 7.4

Question ID : 44100944797
 Option 1 ID : 441009178414
 Option 2 ID : 441009178413
 Option 3 ID : 441009178415
 Option 4 ID : 441009178412

Q.5 भाग के एक प्रश्न में, भाजक, भागफल का 10 गुना और शेषफल का दोगुना है। यदि शेषफल 15 है, तो भाज्य ज्ञात कीजिए।

- Ans
- 1. 109
 - 2. 101
 - 3. 105
 - 4. 108

Question ID : 441009560167
Option 1 ID : 4410092195937
Option 2 ID : 4410092195936
Option 3 ID : 4410092195935
Option 4 ID : 4410092195938

Q.6 A और B के बीच की दूरी 813 km है। A से, अमित 107 km/hr की चाल से B तक जाता है और 74 km/hr की चाल से A पर वापस आता है। अमित की औसत चाल ज्ञात कीजिए। (दो दशमलव स्थानों तक पूर्णांकित)

- Ans
- 1. 95.41 km/hr
 - 2. 78.24 km/hr
 - 3. 85.24 km/hr
 - 4. 87.49 km/hr

Question ID : 441009209088
Option 1 ID : 441009821636
Option 2 ID : 441009821638
Option 3 ID : 441009821637
Option 4 ID : 441009821635

Q.7 मनोज किसी कार्य को 8 घंटे में पूरा कर सकता है। आनंद भी उसी कार्य को 8 घंटे में पूरा कर सकता है। अनिल की सहायता से उन्होंने वह कार्य 2 घंटे में पूरा कर लिया। अनिल अकेले उस कार्य को कितने घंटे में पूरा कर सकता है?

- Ans
- 1. 5
 - 2. 3
 - 3. 6
 - 4. 4

Question ID : 441009897343
Option 1 ID : 4410093543444
Option 2 ID : 4410093543443
Option 3 ID : 4410093543445
Option 4 ID : 4410093543442

Q.8 उस घनाभ के विकर्ण की लंबाई ज्ञात कीजिए, जिसकी विमाएं, लंबाई = 8cm, चौड़ाई = 6cm और ऊंचाई = 110cm हैं।

- Ans
- 1. $13\sqrt{5}$ cm
 - 2. $9\sqrt{5}$ cm
 - 3. $10\sqrt{2}$ cm
 - 4. $7\sqrt{2}$ cm

Question ID : 441009621339
 Option 1 ID : 4410092439488
 Option 2 ID : 4410092439490
 Option 3 ID : 4410092439489
 Option 4 ID : 4410092439491

Q.9 1200 m की एक रेखिक दौड़ में, A, B को 200 m की शुरुआती बढ़त (head start) देता है और B को 10 सेकंड पहले दौड़ शुरू करने की अनुमति भी देता है। इसके बाद भी, A यह दौड़ 5 सेकंड से जीत जाता है। यदि A, 8 m/s की नियत चाल से दौड़ता है, तो B की चाल (m/s में, दशमलव के दो स्थानों तक पूर्णांकित) ज्ञात कीजिए।

- Ans
- 1. 6.06
 - 2. 5.05
 - 3. 8.08
 - 4. 7.07

Question ID : 4410091622250
 Option 1 ID : 4410096407788
 Option 2 ID : 4410096407790
 Option 3 ID : 4410096407791
 Option 4 ID : 4410096407789

Q.10 फर्नीचर की तीन वस्तुओं का औसत मूल्य ₹5,350 है। यदि उनके मूल्यों का अनुपात 3 : 5 : 7 है, तो सबसे महंगी वस्तु का मूल्य (₹ में) _____ है।

- Ans
- 1. 1,070
 - 2. 7,490
 - 3. 5,350
 - 4. 3,210

Question ID : 441009194671
 Option 1 ID : 441009766632
 Option 2 ID : 441009766631
 Option 3 ID : 441009766634
 Option 4 ID : 441009766633

Q.11 एक सेल के दौरान, 55% वस्तुओं को 15% लाभ पर बेचा जाता है। शेष वस्तुओं में से 40% वस्तुओं को 32% लाभ पर बेचा जाता है, और उसके बाद शेष वस्तुओं को 23% की हानि पर बेचा जाता है। यदि इसमें समग्र लाभ $x\%$ होता है, तो x का मान कितना होगा?

- Ans
- 1. 8.4
 - 2. 4.8
 - 3. 6.4
 - 4. 7.8

Question ID : 441009547567
Option 1 ID : 4410092145667
Option 2 ID : 4410092145665
Option 3 ID : 4410092145666
Option 4 ID : 4410092145664

Q.12 गोपाल के दो पौत्र, अक्षय और अतुल हैं। 13 वर्षीय अक्षय को गोपाल की संपत्ति से कुछ धनराशि मिलती है, और 14 वर्षीय अतुल को शेष धनराशि मिलती है। लेकिन अक्षय और अतुल को ये धनराशि तभी मिलेगी जब वे 25 वर्ष के हो जाएंगे। तब तक, धनराशि किसी बैंक में रखी जाएगी जिस पर 4% वार्षिक दर से ब्याज (वार्षिक रूप से संयोजित) अर्जित होगा। जब दोनों 25 वर्ष के हो जाते हैं, तो उन्हें समान धनराशि मिलती है। यदि गोपाल के पास कुल धनराशि ₹25,500 थी, तो गोपाल ने शुरू में अतुल को कितनी धनराशि (₹ में) दी थी?

- Ans
- 1. 13,000
 - 2. 13,350
 - 3. 12,250
 - 4. 12,500

Question ID : 441009543437
Option 1 ID : 4410092129144
Option 2 ID : 4410092129146
Option 3 ID : 4410092129147
Option 4 ID : 4410092129145

Q.13 एक विद्यालय में 480 विद्यार्थी हैं, जहां लड़कों और लड़कियों का अनुपात 7 : 9 है। यदि विद्यालय में 3 और लड़कियों का प्रवेश हो जाए, तो लड़कों और लड़कियों का अनुपात कितना होगा?

- Ans
- 1. 13 : 10
 - 2. 10 : 13
 - 3. 9 : 7
 - 4. 7 : 9

Question ID : 441009194374
Option 1 ID : 441009765444
Option 2 ID : 441009765443
Option 3 ID : 441009765446
Option 4 ID : 441009765445

Q.14 $19 - 20 \div 5$ का मान ज्ञात कीजिए।

- Ans
- 1. 17
 - 2. 18
 - 3. 15
 - 4. 14

Question ID : 441009895708
Option 1 ID : 4410093536903
Option 2 ID : 4410093536905
Option 3 ID : 4410093536902
Option 4 ID : 4410093536904

Q.15 एक व्यापारी एक वस्तु को ₹4,500 में खरीदता है। वह अंकित मूल्य पर 10% की छूट प्रदान करने के बाद 20% का लाभ अर्जित करना चाहता है। उसे वस्तु का अंकित मूल्य कितना रखना होगा?

- Ans
- 1. ₹6,000
 - 2. ₹5,500
 - 3. ₹5,600
 - 4. ₹5,800

Question ID : 4410091639968
Option 1 ID : 4410096477077
Option 2 ID : 4410096477074
Option 3 ID : 4410096477075
Option 4 ID : 4410096477076

Q.16 किस राशि (₹ में) पर 2 वर्षों में 4% वार्षिक ब्याज दर से साधारण ब्याज के रूप में ₹1800 प्राप्त होगा?

- Ans
- 1. 22000
 - 2. 22100
 - 3. 22250
 - 4. 22500

Question ID : 441009852617
Option 1 ID : 4410093363441
Option 2 ID : 4410093363443
Option 3 ID : 4410093363442
Option 4 ID : 4410093363440

Q.17 एक दुकानदार प्रति kg वास्तविक क्रय मूल्य पर सही भार से 20% अधिक भार का उपयोग करके चावल की बिक्री करता है। उसका लाभ या हानि प्रतिशत ज्ञात कीजिए।

- Ans
- 1. $16\frac{2}{3}\%$ का लाभ
 - 2. $16\frac{2}{3}\%$ की हानि
 - 3. 20% का लाभ
 - 4. 20% की हानि

Question ID : 4410091622213
 Option 1 ID : 4410096407640
 Option 2 ID : 4410096407641
 Option 3 ID : 4410096407642
 Option 4 ID : 4410096407643

Q.18 डेविड का मासिक वेतन ₹13,000 है। वह मकान किराए पर ₹4,000 और बिलों पर ₹3,000 खर्च करता है; शेष राशि उसकी मासिक बचत है। यदि वह अपने जन्मदिन के महीने में अपने जन्मदिन समारोह पर पूरी मासिक बचत खर्च कर देता है, तो एक वर्ष बाद उसकी बचत (₹ में) कितनी होगी?

- Ans
- 1. 54,000
 - 2. 60,000
 - 3. 72,000
 - 4. 66,000

Question ID : 441009194532
 Option 1 ID : 441009766078
 Option 2 ID : 441009766077
 Option 3 ID : 441009766076
 Option 4 ID : 441009766075

Q.19 यदि $x \neq y, z > 0$, और $(x+z)^2 : (y+z)^2 :: x : y$ है, तो a ज्ञात कीजिए, जहां $a > 0$ इस प्रकार है कि $x : a :: a : y$ है।

- Ans
- 1. $x - y$
 - 2. x^2y^2
 - 3. z
 - 4. $-z$

Question ID : 441009194368
 Option 1 ID : 441009765421
 Option 2 ID : 441009765422
 Option 3 ID : 441009765419
 Option 4 ID : 441009765420

Q.20 एक अर्धगोला 2 cm त्रिज्या के उभयनिष्ठ आधार वाले बेलन पर स्थापित है। यदि ठोस की ऊँचाई 7 cm है, तो ठोस का वक्र पृष्ठीय क्षेत्रफल (cm^2) ज्ञात कीजिए।

- Ans
- 1. 32π
 - 2. 40π
 - 3. 16π
 - 4. 28π

Question ID : 441009621257
Option 1 ID : 4410092439160
Option 2 ID : 4410092439163
Option 3 ID : 4410092439162
Option 4 ID : 4410092439161

Section : English Language and Comprehension

Q.1 Identify the correct idiom that can replace the underlined phrase in the sentence below.

After trying for hours to fix the machine, he finally decided to stop trying.

- Ans
- 1. let the cat out of the bag
 - 2. threw in the towel
 - 3. beat around the bush
 - 4. hit the sack

Question ID : 4410091127862
Option 1 ID : 4410094447013
Option 2 ID : 4410094447014
Option 3 ID : 4410094447015
Option 4 ID : 4410094447012

Q.2 Choose the option that contains the misspelt word

- Ans
- 1. Requisite
 - 2. Credible
 - 3. Questionnaie
 - 4. Qualitative

Question ID : 4410091526510
Option 1 ID : 4410096029159
Option 2 ID : 4410096029161
Option 3 ID : 4410096029158
Option 4 ID : 4410096029160

Q.3 Select the most appropriate article to fill in the blank. If no article is required, select 'No article required'.

I saw _____ mouse in the house.

- Ans
- 1. the
 - 2. No article required
 - 3. an
 - 4. a

Question ID : 441009285657
Option 1 ID : 4410091109724
Option 2 ID : 4410091109725
Option 3 ID : 4410091109723
Option 4 ID : 4410091109722

Q.4 Parts of a sentence are given below in jumbled order. Arrange the parts in the correct order to form a meaningful sentence.

- A. parental anxiety to marry off their daughters
- B. breeding ground for this issue, with the
- C. at the earliest being a significant driver
- D. illiteracy and related factors serve as the

- Ans
- 1. DBAC
 - 2. ABCD
 - 3. BCDA
 - 4. CBAD

Question ID : 4410091534556
Option 1 ID : 4410096061474
Option 2 ID : 4410096061471
Option 3 ID : 4410096061472
Option 4 ID : 4410096061473

Q.5 Select the option that is the most appropriate antonym of the highlighted word in the given sentence.
The **generous** host welcomed all visitors to the event.

- Ans
- 1. giving
 - 2. charitable
 - 3. stingy
 - 4. helpful

Question ID : 4410091603209
Option 1 ID : 4410096332033
Option 2 ID : 4410096332034
Option 3 ID : 4410096332032
Option 4 ID : 4410096332035

Q.6 Choose the most appropriate option to fill in the given blanks.

Despite the ___ weather and ___ roads, they continued their journey.

- Ans
- 1. harshly, slipperily
 - 2. harsher, slippy
 - 3. harshest, slipper
 - 4. harsh, slippery

Question ID : 4410091126919
Option 1 ID : 4410094443233
Option 2 ID : 4410094443234
Option 3 ID : 4410094443235
Option 4 ID : 4410094443232

Q.7 Select the most appropriate verb to fill in the blank.

My friend _____ from Cholera since August.

- Ans
- 1. suffers
 - 2. has been suffering
 - 3. suffered
 - 4. had suffered

Question ID : 441009499472
Option 1 ID : 4410091953100
Option 2 ID : 4410091953103
Option 3 ID : 4410091953101
Option 4 ID : 4410091953102

Q.8 Select the most appropriate option to substitute the underlined word segment in the given sentence.

The task given to him was endless.

- Ans
- 1. a penelope's web
 - 2. a lame excuse
 - 3. a rotten apple
 - 4. a mare's nest

Question ID : 4410091529464
Option 1 ID : 4410096040958
Option 2 ID : 4410096040957
Option 3 ID : 4410096040955
Option 4 ID : 4410096040956

Q.9 A sentence divided into multiple segments is given below. The first segment is fixed, while the rest have been jumbled up. Rearrange the jumbled segments to form a coherent statement.

Despite the heavy traffic,
(P) and completed all her tasks efficiently
(Q) feeling proud of her planning,
(R) she reached
(S) the office on time,

- Ans
- 1. RPSQ
 - 2. RQPS
 - 3. RSPQ
 - 4. RSQP

Question ID : 4410091313582
Option 1 ID : 4410095186034
Option 2 ID : 4410095186032
Option 3 ID : 4410095186035
Option 4 ID : 4410095186033

Q.10 Read the sentence given below and identify the incorrectly spelt word.

He gave a very knowledgeable lecture on medieval European history.

- Ans
- 1. medieval
 - 2. lecture
 - 3. European
 - 4. knowledgeable

Question ID : 4410091330785
Option 1 ID : 4410095254744
Option 2 ID : 4410095254743
Option 3 ID : 4410095254745
Option 4 ID : 4410095254742

Q.11 Select the option that can be used as a one-word substitute for the given group of words.

Powerfully pleasing, appealing or delightful

- Ans
- 1. Robust
 - 2. Enchanting
 - 3. Debilitating
 - 4. Overwhelming

Question ID : 441009352160
Option 1 ID : 4410091374993
Option 2 ID : 4410091374991
Option 3 ID : 4410091374990
Option 4 ID : 4410091374992

Q.12 Replace the highlighted word segment with the appropriate one-word substitute.

A person who studies plants often spends hours observing plants in the field.

- Ans
- 1. cartographer
 - 2. geologist
 - 3. zoologist
 - 4. botanist

Question ID : 4410091555258
Option 1 ID : 4410096143602
Option 2 ID : 4410096143601
Option 3 ID : 4410096143599
Option 4 ID : 4410096143600

Q.13 Choose the correct option to complete the sentence.

_____ the weather was harsh, the expedition team continued their ascent to the summit.

- Ans
- 1. Although
 - 2. Because
 - 3. Since
 - 4. Unless

Question ID : 4410091524059
Option 1 ID : 4410096019513
Option 2 ID : 4410096019511
Option 3 ID : 4410096019514
Option 4 ID : 4410096019512

Q.14 Fill in the blanks with the correct option.

They need ___ honest leader and ___ clear vision.

- Ans
- 1. an, an
 - 2. an, a
 - 3. a, a
 - 4. a, an

Question ID : 4410091126898
Option 1 ID : 4410094443151
Option 2 ID : 4410094443148
Option 3 ID : 4410094443149
Option 4 ID : 4410094443150

Q.15 Select the option that is the most appropriate antonym of the underlined word in the given sentence.

The investment was deemed precarious by financial analysts.

- Ans
- 1. strategic
 - 2. secure
 - 3. insecure
 - 4. abundant

Question ID : 4410091639701
Option 1 ID : 4410096476137
Option 2 ID : 4410096476134
Option 3 ID : 4410096476135
Option 4 ID : 4410096476136

Comprehension:

Read the given passage and answer the questions that follow.

White tigers are not a separate subspecies but Bengal or Siberian tigers with a rare genetic mutation called leucism, causing their unique white fur. This recessive gene appears naturally in about one in 10,000 tiger births, making wild white tigers extremely rare. Their white coat offers no camouflage, so few survive to adulthood in the wild.

Today, white tigers exist mainly due to captive breeding, which is driven by profit rather than conservation. Inbreeding in captivity leads to severe health problems and deformities, with studies showing up to 80% of inbred cubs dying shortly after birth. These animals are often exploited for entertainment, photo ops, and even sold as exotic pets.

White tigers share the scientific name *Panthera tigris* with Bengal tigers known as *Panthera tigris tigris* and Siberian tigers as *Panthera tigris altaica*. They are considered endangered, not because of natural rarity, but due to cruel captivity practices.

White tigers are believed extinct in the wild since 1958, now living only in zoos, sanctuaries, and private collections, with around 200 in captivity worldwide.

SubQuestion No : 16

Q.16 Choose the most appropriate title for the passage.

- Ans
- 1. White Tigers in Popular Culture
 - 2. How to Breed White Tigers
 - 3. The Natural Habitat of White Tigers
 - 4. White Tigers: Rare Mutation and Captive Challenges

Question ID : 4410091524447
Option 1 ID : 4410096021031
Option 2 ID : 4410096021030
Option 3 ID : 4410096021028
Option 4 ID : 4410096021029

Comprehension:

Read the given passage and answer the questions that follow.

White tigers are not a separate subspecies but Bengal or Siberian tigers with a rare genetic mutation called leucism, causing their unique white fur. This recessive gene appears naturally in about one in 10,000 tiger births, making wild white tigers extremely rare. Their white coat offers no camouflage, so few survive to adulthood in the wild.

Today, white tigers exist mainly due to captive breeding, which is driven by profit rather than conservation. Inbreeding in captivity leads to severe health problems and deformities, with studies showing up to 80% of inbred cubs dying shortly after birth. These animals are often exploited for entertainment, photo ops, and even sold as exotic pets.

White tigers share the scientific name *Panthera tigris* with Bengal tigers known as *Panthera tigris tigris* and Siberian tigers as *Panthera tigris altaica*. They are considered endangered, not because of natural rarity, but due to cruel captivity practices.

White tigers are believed extinct in the wild since 1958, now living only in zoos, sanctuaries, and private collections, with around 200 in captivity worldwide.

SubQuestion No : 17

Q.17 Which of the following is a fact stated in the passage?

- Ans**
- 1. White tigers are a separate subspecies from Bengal tigers.
 - 2. White tigers share the scientific name *Panthera tigris*.
 - 3. White tigers survive well in the wild due to their camouflage.
 - 4. White tigers are commonly found in the wild today.

Question ID : 4410091524448

Option 1 ID : 4410096021032

Option 2 ID : 4410096021034

Option 3 ID : 4410096021033

Option 4 ID : 4410096021035

Comprehension:

Read the given passage and answer the questions that follow.

White tigers are not a separate subspecies but Bengal or Siberian tigers with a rare genetic mutation called leucism, causing their unique white fur. This recessive gene appears naturally in about one in 10,000 tiger births, making wild white tigers extremely rare. Their white coat offers no camouflage, so few survive to adulthood in the wild.

Today, white tigers exist mainly due to captive breeding, which is driven by profit rather than conservation. Inbreeding in captivity leads to severe health problems and deformities, with studies showing up to 80% of inbred cubs dying shortly after birth. These animals are often exploited for entertainment, photo ops, and even sold as exotic pets.

White tigers share the scientific name *Panthera tigris* with Bengal tigers known as *Panthera tigris tigris* and Siberian tigers as *Panthera tigris altaica*. They are considered endangered, not because of natural rarity, but due to cruel captivity practices.

White tigers are believed extinct in the wild since 1958, now living only in zoos, sanctuaries, and private collections, with around 200 in captivity worldwide.

SubQuestion No : 18

Q.18 How does the information about white tigers relate to real-life conservation issues?

- Ans
- 1. It proves white tigers are thriving in the wild.
 - 2. It encourages hunting to control tiger populations.
 - 3. It promotes breeding white tigers as pets.
 - 4. It shows that breeding for profit harms animal health and conservation efforts.

Question ID : 4410091524449

Option 1 ID : 4410096021037

Option 2 ID : 4410096021039

Option 3 ID : 4410096021038

Option 4 ID : 4410096021036

Comprehension:

Read the given passage and answer the questions that follow.

White tigers are not a separate subspecies but Bengal or Siberian tigers with a rare genetic mutation called leucism, causing their unique white fur. This recessive gene appears naturally in about one in 10,000 tiger births, making wild white tigers extremely rare. Their white coat offers no camouflage, so few survive to adulthood in the wild.

Today, white tigers exist mainly due to captive breeding, which is driven by profit rather than conservation. Inbreeding in captivity leads to severe health problems and deformities, with studies showing up to 80% of inbred cubs dying shortly after birth. These animals are often exploited for entertainment, photo ops, and even sold as exotic pets.

White tigers share the scientific name *Panthera tigris* with Bengal tigers known as *Panthera tigris tigris* and Siberian tigers as *Panthera tigris altaica*. They are considered endangered, not because of natural rarity, but due to cruel captivity practices.

White tigers are believed extinct in the wild since 1958, now living only in zoos, sanctuaries, and private collections, with around 200 in captivity worldwide.

SubQuestion No : 19

Q.19 Identify the tone of the passage.

- Ans**
- 1. Neutral and indifferent
 - 2. Humorous and light hearted
 - 3. Cheerful and optimistic
 - 4. Critical and informative

Question ID : 4410091524450

Option 1 ID : 4410096021043

Option 2 ID : 4410096021042

Option 3 ID : 4410096021040

Option 4 ID : 4410096021041

Comprehension:

Read the given passage and answer the questions that follow.

White tigers are not a separate subspecies but Bengal or Siberian tigers with a rare genetic mutation called leucism, causing their unique white fur. This recessive gene appears naturally in about one in 10,000 tiger births, making wild white tigers extremely rare. Their white coat offers no camouflage, so few survive to adulthood in the wild.

Today, white tigers exist mainly due to captive breeding, which is driven by profit rather than conservation. Inbreeding in captivity leads to severe health problems and deformities, with studies showing up to 80% of inbred cubs dying shortly after birth. These animals are often exploited for entertainment, photo ops, and even sold as exotic pets.

White tigers share the scientific name *Panthera tigris* with Bengal tigers known as *Panthera tigris tigris* and Siberian tigers as *Panthera tigris altaica*. They are considered endangered, not because of natural rarity, but due to cruel captivity practices.

White tigers are believed extinct in the wild since 1958, now living only in zoos, sanctuaries, and private collections, with around 200 in captivity worldwide.

SubQuestion No : 20

Q.20 Choose the option that is the closest synonym of the word 'rare' as used in the passage.

- Ans
- 1. Predictable
 - 2. Common
 - 3. Frequent
 - 4. Unusual

Question ID : 4410091524451
 Option 1 ID : 4410096021047
 Option 2 ID : 4410096021044
 Option 3 ID : 4410096021046
 Option 4 ID : 4410096021045

Section : Hindi Language and Comprehension

Q.1 निम्नलिखित वाक्य के रिक्त स्थान में उचित विशेषण शब्द का प्रयोग करें -
 'उन महात्मा का चेहरा बड़ा था।'

- Ans
- 1. मीठा
 - 2. पूर्व
 - 3. तेजस्वी
 - 4. नवीन

Question ID : 4410091242809
 Option 1 ID : 4410094904575
 Option 2 ID : 4410094904577
 Option 3 ID : 4410094904578
 Option 4 ID : 4410094904576

Q.2 नीचे दिए गए वाक्य के किस भाग में वर्तनी संबंधी अशुद्धि है ?
बाज़ार की साधारण वस्तुओं में आकर्षण होता है ।

- Ans
- 1. आकर्षण
 - 2. होता है ।
 - 3. बाज़ार की
 - 4. साधारण वस्तुओं में

Question ID : 4410091624824
Option 1 ID : 4410096417825
Option 2 ID : 4410096417826
Option 3 ID : 4410096417823
Option 4 ID : 4410096417824

Q.3 वे गहन सोच-विचार में मग्न थे।
वाक्य में प्रयुक्त मग्न शब्द का पर्यायवाची क्या है?

- Ans
- 1. विटप
 - 2. पावस
 - 3. तल्लीन
 - 4. अनुताप

Question ID : 4410091626438
Option 1 ID : 4410096424126
Option 2 ID : 4410096424124
Option 3 ID : 4410096424125
Option 4 ID : 4410096424127

Q.4 निम्न में से 'तिलस्म तोड़ना' मुहावरे का सही अर्थ कौन-सा है ?

- Ans
- 1. अपनापा दिखाना
 - 2. गुप्त रहस्य का पता लगाना
 - 3. स्त्रियों का रहस्य
 - 4. क्रोध से देखना

Question ID : 4410091626240
Option 1 ID : 4410096423352
Option 2 ID : 4410096423350
Option 3 ID : 4410096423349
Option 4 ID : 4410096423351

Q.5 सही कारक चिह्न का चयन कर वाक्य को पूर्ण कीजिए।
क्षमा ने राघव पूछा।

- Ans
- 1. ऊपर
 - 2. हे
 - 3. से
 - 4. में

Question ID : 4410091253768
Option 1 ID : 4410094948129
Option 2 ID : 4410094948131
Option 3 ID : 4410094948128
Option 4 ID : 4410094948130

Q.6 दिये गए वाक्य के रेखांकित शब्द का पर्यायवाची शब्द चुनिए -

विश्वविद्यालय द्वारा छात्रों की अनुसंधान क्षमता का मूल्यांकन अनिवार्य कर दिया गया।

- Ans
- 1. अपरूप
 - 2. अपवर्त
 - 3. अवधान
 - 4. अपरिहार्य

Question ID : 4410091547284
Option 1 ID : 4410096112005
Option 2 ID : 4410096112006
Option 3 ID : 4410096112004
Option 4 ID : 4410096112003

Q.7 निम्नलिखित वाक्य में से वर्तनी त्रुटि की पहचान कर वाक्य को शुद्ध कीजिए।
'जब किसी व्यक्ति को यह अनुभव होता है कि सांसारिक मोह-माया से मुक्ति ही आत्मज्ञान का मार्ग है,
तब वह सब कुछ त्यागकर सन्यास ग्रहण करता है।'

- Ans
- 1. सांसारिक
 - 2. सन्यास
 - 3. ग्रहण
 - 4. आत्मज्ञान

Question ID : 4410091629732
Option 1 ID : 4410096437014
Option 2 ID : 4410096437015
Option 3 ID : 4410096437017
Option 4 ID : 4410096437016

Q.8 दान और उपकार के लिए इससे उत्तम और कोई अवसर नहीं होगा।
उपर्युक्त रेखांकित शब्द का विलोम क्या होगा ?

- Ans
- 1. अदक्ष
 - 2. अनिष्ट
 - 3. प्रतिकूल
 - 4. अधम

Question ID : 4410091624873
Option 1 ID : 4410096418022
Option 2 ID : 4410096418019
Option 3 ID : 4410096418021
Option 4 ID : 4410096418020

Q.9 'चिड़िया के बच्चे बहुत ----- हैं' वाक्य के रिक्त स्थान के लिए सर्वाधिक उपयुक्त क्रिया
शब्द कौन-सा है?

- Ans
- 1. उड़ते
 - 2. छोटे
 - 3. कमजोर
 - 4. प्यारे

Question ID : 4410091183586
Option 1 ID : 4410094668455
Option 2 ID : 4410094668453
Option 3 ID : 4410094668454
Option 4 ID : 4410094668456

Q.10 उपयुक्त क्रिया-विशेषण का चयन कर वाक्य को पूर्ण कीजिए।
जहाँ अभी रेगिस्तान है ,.....किसी समय समुद्र था।

- Ans
- 1. वहाँ
 - 2. कहाँ
 - 3. यहाँ
 - 4. ठीक

Question ID : 4410091300152
Option 1 ID : 4410095132934
Option 2 ID : 4410095132935
Option 3 ID : 4410095132936
Option 4 ID : 4410095132937

Q.11 दिए गए वाक्यांश के लिए सार्थक शब्द बताएं -
'पत्नी के पिता का घर'

- Ans 1. ससुराल
 2. ननिहाल
 3. हवेली
 4. मायका

Question ID : 4410091527956
 Option 1 ID : 4410096035021
 Option 2 ID : 4410096035020
 Option 3 ID : 4410096035022
 Option 4 ID : 4410096035019

Q.12 निम्नलिखित वाक्य में रेखांकित शब्द के पर्यायवाची शब्द का चयन दिए गए विकल्पों में से कीजिए-
उसने 'तूणीर' से अपना आखिरी बाण निकाला और शत्रु सेना पर छोड़ दिया।

- Ans 1. निषंग
 2. असंग
 3. निःसंग
 4. उत्संग

Question ID : 4410091618571
 Option 1 ID : 4410096393155
 Option 2 ID : 4410096393156
 Option 3 ID : 4410096393158
 Option 4 ID : 4410096393157

Q.13 "आकाश से बातें करना"- मुहावरे का क्या अर्थ है?

- Ans 1. आकाशवाणी होना
 2. घमण्डी होना
 3. बहुत ऊँचा होना
 4. अपने आप बोलते रहना

Question ID : 4410091618276
 Option 1 ID : 4410096391973
 Option 2 ID : 4410096391971
 Option 3 ID : 4410096391972
 Option 4 ID : 4410096391974

Q.14 निम्नलिखित वाक्यांशों को उचित क्रम में लगाकर एक शुद्ध वाक्य बनाइए:

- 1- की विशेषता बताने
- 2- वाले शब्द
- 3- संज्ञा और सर्वनाम
- 4- विशेषण कहलाते हैं

- Ans
- 1. 2, 3, 4, 1
 - 2. 4, 3, 1, 2
 - 3. 3, 1, 2, 4
 - 4. 1, 4, 2, 3

Question ID : 441009550436
Option 1 ID : 4410092157089
Option 2 ID : 4410092157090
Option 3 ID : 4410092157088
Option 4 ID : 4410092157091

Q.15 'तूफान में -----पेड़ गिर पड़े।' वाक्य के रिक्त स्थान के लिए क्रिया-विशेषण शब्द कौन-सा है?

- Ans
- 1. जामुन के
 - 2. अचानक
 - 3. बड़े
 - 4. हल्के

Question ID : 4410091278334
Option 1 ID : 4410095045285
Option 2 ID : 4410095045283
Option 3 ID : 4410095045284
Option 4 ID : 4410095045286

Comprehension:

दिए गए गद्यांश को ध्यानपूर्वक पढ़कर पूछे गए प्रश्नों के सर्वाधिक उपयुक्त उत्तर वाले विकल्प को चुनिए –

भारतेन्दु जी सही अर्थों में हिन्दी गद्य के जनक थे। उन्होंने भाषा संस्कार करते हुए अपने पूर्ववर्ती गद्य लेखकों की भाषा में व्याप्त दोषों से यथासंभव स्वयं को मुक्त रखा। उन्होंने न केवल गद्य की भाषा का संस्कार किया अपितु पद्य की ब्रजभाषा को सुसंस्कृत किया। भारतेन्दु जी का सबसे बड़ा योगदान यह है कि उन्होंने हिन्दी साहित्य को नवीन मार्ग दिखलाया। देशहित एवं समाजहित की भावना का समावेश सर्वप्रथम भारतेन्दु जी की साहित्यिक रचनाओं में हुआ है। बंगला में लिखे गए नाटकों एवं उपन्यासों में इसका सूत्रपात पहले ही बंगाली लेखक कर चुके थे। आचार्य रामचन्द्र शुक्ल ने भारतेन्दु के इस योगदान पर टिप्पणी करते हुए लिखा है, “हमारे जीवन और साहित्य के बीच जो विच्छेद बढ़ रहा था, उसे उन्होंने दूर किया। हमारे साहित्य को नए-नए विषयों की ओर प्रवृत्त करने वाले हरिश्चंद्र ही हुए।” भारतेन्दु जी मंजी हुई परिष्कृत भाषा को सामने लाए जो हिन्दी भाषी जनता की बोली थी, अतः भाषा का जो विवाद उनसे पहले चल रहा था, वह बहुत कुछ सुलझ गया।

SubQuestion No : 16

Q.16 प्रस्तुत गद्यांश का उचित शीर्षक क्या होगा?

- Ans
- 1. कविता
 - 2. भारतेन्दु का योगदान
 - 3. गद्य साहित्य
 - 4. आधुनिक काल

Question ID : 4410091625792
 Option 1 ID : 4410096421614
 Option 2 ID : 4410096421616
 Option 3 ID : 4410096421615
 Option 4 ID : 4410096421613

Comprehension:

दिए गए गद्यांश को ध्यानपूर्वक पढ़कर पूछे गए प्रश्नों के सर्वाधिक उपयुक्त उत्तर वाले विकल्प को चुनिए –

भारतेन्दु जी सही अर्थों में हिन्दी गद्य के जनक थे। उन्होंने भाषा संस्कार करते हुए अपने पूर्ववर्ती गद्य लेखकों की भाषा में व्याप्त दोषों से यथासंभव स्वयं को मुक्त रखा। उन्होंने न केवल गद्य की भाषा का संस्कार किया अपितु पद्य की ब्रजभाषा को सुसंस्कृत किया। भारतेन्दु जी का सबसे बड़ा योगदान यह है कि उन्होंने हिन्दी साहित्य को नवीन मार्ग दिखलाया। देशहित एवं समाजहित की भावना का समावेश सर्वप्रथम भारतेन्दु जी की साहित्यिक रचनाओं में हुआ है। बंगला में लिखे गए नाटकों एवं उपन्यासों में इसका सूत्रपात पहले ही बंगाली लेखक कर चुके थे। आचार्य रामचन्द्र शुक्ल ने भारतेन्दु के इस योगदान पर टिप्पणी करते हुए लिखा है, “हमारे जीवन और साहित्य के बीच जो विच्छेद बढ़ रहा था, उसे उन्होंने दूर किया। हमारे साहित्य को नए-नए विषयों की ओर प्रवृत्त करने वाले हरिश्चंद्र ही हुए।” भारतेन्दु जी मंजी हुई परिष्कृत भाषा को सामने लाए जो हिन्दी भाषी जनता की बोली थी, अतः भाषा का जो विवाद उनसे पहले चल रहा था, वह बहुत कुछ सुलझ गया।

SubQuestion No : 17

Q.17 भारतेन्दु जी ने विषय-वस्तु की दृष्टि से हिन्दी काव्य में क्या परिवर्तन किए ?

- Ans
- 1. ब्रजभाषा का विकास
 - 2. मध्यकालीन बोध
 - 3. साहित्य को नवीन विषयों की ओर प्रवृत्त किया
 - 4. शृंगारिकता को बढ़ावा

Question ID : 4410091625793

Option 1 ID : 4410096421617

Option 2 ID : 4410096421620

Option 3 ID : 4410096421619

Option 4 ID : 4410096421618

Comprehension:

दिए गए गद्यांश को ध्यानपूर्वक पढ़कर पूछे गए प्रश्नों के सर्वाधिक उपयुक्त उत्तर वाले विकल्प को चुनिए –

भारतेन्दु जी सही अर्थों में हिन्दी गद्य के जनक थे। उन्होंने भाषा संस्कार करते हुए अपने पूर्ववर्ती गद्य लेखकों की भाषा में व्याप्त दोषों से यथासंभव स्वयं को मुक्त रखा। उन्होंने न केवल गद्य की भाषा का संस्कार किया अपितु पद्य की ब्रजभाषा को सुसंस्कृत किया। भारतेन्दु जी का सबसे बड़ा योगदान यह है कि उन्होंने हिन्दी साहित्य को नवीन मार्ग दिखलाया। देशहित एवं समाजहित की भावना का समावेश सर्वप्रथम भारतेन्दु जी की साहित्यिक रचनाओं में हुआ है। बंगला में लिखे गए नाटकों एवं उपन्यासों में इसका सूत्रपात पहले ही बंगाली लेखक कर चुके थे। आचार्य रामचन्द्र शुक्ल ने भारतेन्दु के इस योगदान पर टिप्पणी करते हुए लिखा है, “हमारे जीवन और साहित्य के बीच जो विच्छेद बढ़ रहा था, उसे उन्होंने दूर किया। हमारे साहित्य को नए-नए विषयों की ओर प्रवृत्त करने वाले हरिश्चंद्र ही हुए।” भारतेन्दु जी मंजी हुई परिष्कृत भाषा को सामने लाए जो हिन्दी भाषी जनता की बोली थी, अतः भाषा का जो विवाद उनसे पहले चल रहा था, वह बहुत कुछ सुलझ गया।

SubQuestion No : 18

Q.18 हिन्दी गद्य का जनक कौन माना जाता है ?

- Ans
- 1. आचार्य महावीरप्रसाद द्विवेदी
 - 2. राजा लक्ष्मणसिंह
 - 3. भारतेन्दु बाबू हरिश्चन्द्र
 - 4. राजा शिवप्रसाद सितारेहिन्द

Question ID : 4410091625794

Option 1 ID : 4410096421624

Option 2 ID : 4410096421622

Option 3 ID : 4410096421623

Option 4 ID : 4410096421621

Comprehension:

दिए गए गद्यांश को ध्यानपूर्वक पढ़कर पूछे गए प्रश्नों के सर्वाधिक उपयुक्त उत्तर वाले विकल्प को चुनिए –

भारतेन्दु जी सही अर्थों में हिन्दी गद्य के जनक थे। उन्होंने भाषा संस्कार करते हुए अपने पूर्ववर्ती गद्य लेखकों की भाषा में व्याप्त दोषों से यथासंभव स्वयं को मुक्त रखा। उन्होंने न केवल गद्य की भाषा का संस्कार किया अपितु पद्य की ब्रजभाषा को सुसंस्कृत किया। भारतेन्दु जी का सबसे बड़ा योगदान यह है कि उन्होंने हिन्दी साहित्य को नवीन मार्ग दिखलाया। देशहित एवं समाजहित की भावना का समावेश सर्वप्रथम भारतेन्दु जी की साहित्यिक रचनाओं में हुआ है। बंगला में लिखे गए नाटकों एवं उपन्यासों में इसका सूत्रपात पहले ही बंगाली लेखक कर चुके थे। आचार्य रामचन्द्र शुक्ल ने भारतेन्दु के इस योगदान पर टिप्पणी करते हुए लिखा है, “हमारे जीवन और साहित्य के बीच जो विच्छेद बढ़ रहा था, उसे उन्होंने दूर किया। हमारे साहित्य को नए-नए विषयों की ओर प्रवृत्त करने वाले हरिश्चंद्र ही हुए।” भारतेन्दु जी मंजी हुई परिष्कृत भाषा को सामने लाए जो हिन्दी भाषी जनता की बोली थी, अतः भाषा का जो विवाद उनसे पहले चल रहा था, वह बहुत कुछ सुलझ गया।

SubQuestion No : 19

Q.19 भारतेन्दु जी ने किसका संस्कार किया ?

- Ans
- 1. विवेक का
 - 2. गद्य एवं पद्य की ब्रजभाषा का
 - 3. शिक्षा का
 - 4. ज्ञान का

Question ID : 4410091625795

Option 1 ID : 4410096421628

Option 2 ID : 4410096421627

Option 3 ID : 4410096421626

Option 4 ID : 4410096421625

Comprehension:

दिए गए गद्यांश को ध्यानपूर्वक पढ़कर पूछे गए प्रश्नों के सर्वाधिक उपयुक्त उत्तर वाले विकल्प को चुनिए –

भारतेन्दु जी सही अर्थों में हिन्दी गद्य के जनक थे। उन्होंने भाषा संस्कार करते हुए अपने पूर्ववर्ती गद्य लेखकों की भाषा में व्याप्त दोषों से यथासंभव स्वयं को मुक्त रखा। उन्होंने न केवल गद्य की भाषा का संस्कार किया अपितु पद्य की ब्रजभाषा को सुसंस्कृत किया। भारतेन्दु जी का सबसे बड़ा योगदान यह है कि उन्होंने हिन्दी साहित्य को नवीन मार्ग दिखलाया। देशहित एवं समाजहित की भावना का समावेश सर्वप्रथम भारतेन्दु जी की साहित्यिक रचनाओं में हुआ है। बंगला में लिखे गए नाटकों एवं उपन्यासों में इसका सूत्रपात पहले ही बंगाली लेखक कर चुके थे। आचार्य रामचन्द्र शुक्ल ने भारतेन्दु के इस योगदान पर टिप्पणी करते हुए लिखा है, “हमारे जीवन और साहित्य के बीच जो विच्छेद बढ़ रहा था, उसे उन्होंने दूर किया। हमारे साहित्य को नए-नए विषयों की ओर प्रवृत्त करने वाले हरिश्चंद्र ही हुए।” भारतेन्दु जी मंजी हुई परिष्कृत भाषा को सामने लाए जो हिन्दी भाषी जनता की बोली थी, अतः भाषा का जो विवाद उनसे पहले चल रहा था, वह बहुत कुछ सुलझ गया।

SubQuestion No : 20

Q.20 'व्याप्त' का विलोम शब्द क्या होगा ?

- Ans
- 1. अव्याप्त
 - 2. अशक्य
 - 3. अज्ञान
 - 4. व्यष्टि

Question ID : 4410091625796

Option 1 ID : 4410096421630

Option 2 ID : 4410096421632

Option 3 ID : 4410096421631

Option 4 ID : 4410096421629

Section : Discipline1

Q.1 निम्नलिखित में से किसे मुख्य रूप से एक आर्थिक मुद्दा माना जाता है, लेकिन यह शिक्षा तक पहुंच को भी प्रभावित करता है?

- Ans
- 1. गतिशीलता
 - 2. निर्धनता
 - 3. जाति
 - 4. क्षेत्र

Question ID : 4410091607703

Option 1 ID : 4410096349777

Option 2 ID : 4410096349779

Option 3 ID : 4410096349776

Option 4 ID : 4410096349778

Q.2 एक माध्यमिक विद्यालय राष्ट्रीय उत्सव का आयोजन करता है जिसमें विभिन्न भाषाई पृष्ठभूमियों के विद्यार्थी एक साथ भाग लेते हैं। प्रधानाचार्य ऐसे आयोजनों के माध्यम से सामूहिक पहचान विकसित करने पर बल देते हैं। इस परिदृश्य में मुख्य रूप से कौन-सा शैक्षिक उद्देश्य पूरा किया जा रहा है?

- Ans
- 1. व्यक्तिगत प्रतिस्पर्धा को बढ़ावा देना
 - 2. तकनीकी कौशल को बढ़ावा देना
 - 3. विषय विशेषज्ञता को प्रोत्साहित करना
 - 4. राष्ट्रीय एकता को बढ़ावा देना

Question ID : 4410091604774
Option 1 ID : 4410096338260
Option 2 ID : 4410096338263
Option 3 ID : 4410096338262
Option 4 ID : 4410096338261

Q.3 वह कौन-सा शब्द है जो विचारों, भावनाओं और व्यवहारों के उस मूल स्वरूप का सर्वोत्तम वर्णन करता है जो प्रत्येक व्यक्ति को अद्वितीय बनाता है?

- Ans
- 1. सामाजिक भूमिका
 - 2. आत्म छवि
 - 3. व्यक्तित्व
 - 4. व्यक्तिगत आदत

Question ID : 4410091538523
Option 1 ID : 4410096077358
Option 2 ID : 4410096077357
Option 3 ID : 4410096077360
Option 4 ID : 4410096077359

Q.4 RTE अधिनियम के अनुसार, माता-पिता अपने बच्चे का दाखिला बिना प्रवेश शुल्क के करवाते हैं। कौन-सा प्रावधान इसे सुनिश्चित करता है?

- Ans
- 1. सीमित वित्तीय सहायता, जो केवल शिक्षण सामग्री तक सीमित है
 - 2. राज्य के दायित्व के बिना प्राथमिक शिक्षा तक स्वैच्छिक पहुंच
 - 3. उच्चतर शिक्षा के लिए योग्यता आधारित वित्तीय सहायता
 - 4. 6-14 वर्ष की आयु के बच्चों के लिए अनिवार्य राज्य द्वारा वित्त-पोषित प्राथमिक शिक्षा

Question ID : 4410091568284
Option 1 ID : 4410096194422
Option 2 ID : 4410096194420
Option 3 ID : 4410096194423
Option 4 ID : 4410096194421

Q.5 Which activity primarily demonstrates the development of gross motor skills in young children?

- Ans
- 1. Buttoning a shirt
 - 2. Tying shoelaces
 - 3. Jumping across a line
 - 4. Coloring within shapes

Question ID : 4410091600176
Option 1 ID : 4410096320393
Option 2 ID : 4410096320392
Option 3 ID : 4410096320391
Option 4 ID : 4410096320394

Q.6 शिक्षा का अधिकार अधिनियम, 2009 के अंतर्गत वित्त के लिए कौन उत्तरदायी होता है?

- Ans
- 1. केवल केंद्र सरकार
 - 2. स्थानीय सरकार
 - 3. केवल राज्य सरकार
 - 4. केंद्र और राज्य दोनों सरकारें

Question ID : 4410091544086
Option 1 ID : 4410096099444
Option 2 ID : 4410096099445
Option 3 ID : 4410096099443
Option 4 ID : 4410096099446

Q.7 Peace education supports social harmony mainly by promoting:

- Ans
- 1. Respect for institutional norms
 - 2. Critical social awareness
 - 3. Active civic engagement
 - 4. Mutual coexistence

Question ID : 4410091635603
Option 1 ID : 4410096460433
Option 2 ID : 4410096460432
Option 3 ID : 4410096460431
Option 4 ID : 4410096460434

Q.8 कथन "माता पहली शिक्षिका होती है" किस पर बल देता है?

- Ans
- 1. माता बच्चों की शिक्षा को पूरी तरह नियंत्रित करती हैं
 - 2. माता ही सर्वप्रथम अकादमिक विषयों को पढ़ाती हैं
 - 3. माता, स्कूल के शिक्षकों का स्थान ले लेती हैं
 - 4. माता प्रारंभिक समाजीकरण में महत्वपूर्ण भूमिका निभाती हैं

Question ID : 4410091617557
Option 1 ID : 4410096389130
Option 2 ID : 4410096389128
Option 3 ID : 4410096389127
Option 4 ID : 4410096389129

Q.9 निम्नलिखित में से कौन-सा विकल्प, व्यक्तित्व को सर्वोत्तम रूप से परिभाषित करता है?

- Ans
- 1. व्यक्ति की आय और स्थिति
 - 2. भौतिक विशेषताओं का संग्रह
 - 3. जैव विशेषताओं का समूह
 - 4. व्यवहार और संवेगात्मक लक्षणों का अनूठा समूह

Question ID : 4410091640177
Option 1 ID : 4410096477908
Option 2 ID : 4410096477906
Option 3 ID : 4410096477909
Option 4 ID : 4410096477907

Q.10 समीपदूराभिमुख विकास _____ वृद्धि को संदर्भित करता है।

- Ans
- 1. पैरों से सिर की ओर होने वाली
 - 2. केवल तीव्र और अचानक परिवर्तनों के माध्यम से होने वाली
 - 3. बिना किसी स्पष्ट क्रम के घटित होने वाली
 - 4. शरीर के केंद्र से बाहर की ओर होने वाली

Question ID : 4410091570550
Option 1 ID : 4410096203172
Option 2 ID : 4410096203174
Option 3 ID : 4410096203175
Option 4 ID : 4410096203173

Q.11 प्राथमिक शिक्षा के सार्वभौमीकरण (UEE) के संबंध में RTE-2009 अधिनियम का मुख्य उद्देश्य क्या है?

- Ans
- 1. माध्यमिक विद्यालय स्तर पर व्यावसायिक प्रशिक्षण का विस्तार
 - 2. छह से चौदह वर्ष की आयु के बच्चों के लिए निःशुल्क और अनिवार्य शिक्षा
 - 3. सभी निजी स्कूलों में एक समान पाठ्यचर्या और परीक्षा प्रणाली
 - 4. उच्च शिक्षा और व्यावसायिक पाठ्यक्रमों के लिए छात्रवृत्तियां

Question ID : 4410091624588
Option 1 ID : 4410096416884
Option 2 ID : 4410096416883
Option 3 ID : 4410096416885
Option 4 ID : 4410096416886

Q.12 At what age do children typically begin to gain more control over their emotions?

- Ans
- 1. Between 16-18 years of age
 - 2. Between 6-11 years of age
 - 3. Between 12-15 years of age
 - 4. Between 3-5 years of age

Question ID : 4410091601435
Option 1 ID : 4410096325365
Option 2 ID : 4410096325362
Option 3 ID : 4410096325364
Option 4 ID : 4410096325363

Q.13 Which curriculum development approach prioritizes the integration of students' cultural backgrounds and community needs into the learning process?

- Ans
- 1. Learner-centered approach
 - 2. Technical-scientific approach
 - 3. Social reconstructionist approach
 - 4. Subject-centered approach

Question ID : 4410091608082
Option 1 ID : 4410096351261
Option 2 ID : 4410096351262
Option 3 ID : 4410096351263
Option 4 ID : 4410096351260

Q.14 निम्नलिखित में से कौन-सा, भारतीय समाज की एक प्रमुख विशेषता का सर्वोत्तम वर्णन करता है?

- Ans
- 1. इसमें कोई सामाजिक पदानुक्रम नहीं है
 - 2. यह एकभाषी और एकल-सांस्कृतिक है
 - 3. यह बहुभाषी और बहु-सांस्कृतिक है
 - 4. यह केवल एक धर्म का अनुसरण करता है

Question ID : 4410091604155
Option 1 ID : 4410096335800
Option 2 ID : 4410096335798
Option 3 ID : 4410096335799
Option 4 ID : 4410096335801

Q.15 एक शिक्षिका अवलोकन करती है कि उसकी कक्षा के विद्यार्थी अलग-अलग गति से भाषा कौशल विकसित करते हैं, लेकिन सभी समान चरणों से गुजरते हैं। यहाँ विकास का कौन-सा सिद्धांत परिलक्षित होता है?

- Ans
- 1. सभी बच्चे समान उम्र में कौशल (milestones) प्राप्त करते हैं।
 - 2. विकास सदैव सभी के लिए समान दिशा का अनुसरण करता है।
 - 3. व्यक्तियों में विकास पूर्णतया यादृच्छिक होता है।
 - 4. विकास एक क्रमबद्ध पैटर्न का अनुसरण करता है लेकिन इसकी दर भिन्न-भिन्न होती है।

Question ID : 4410091678811
Option 1 ID : 4410096623455
Option 2 ID : 4410096623456
Option 3 ID : 4410096623454
Option 4 ID : 4410096623453

Q.16 एक शिक्षक विद्यार्थियों में संवेगात्मक विकास को बढ़ावा देना चाहता है। इस लक्ष्य के लिए कौन-सी गतिविधि सर्वाधिक प्रभावी होगी?

- Ans
- 1. अधिक गृहकार्य देना
 - 2. सख्त मौन को बनाए रखना
 - 3. विद्यार्थियों को भावनाओं पर चर्चा करने के लिए प्रोत्साहित करना
 - 4. गुणन सारणी पढ़ाना

Question ID : 4410091640204
Option 1 ID : 4410096478014
Option 2 ID : 4410096478017
Option 3 ID : 4410096478015
Option 4 ID : 4410096478016

Q.17 एक शिक्षक प्रेक्षित करता है कि एक विद्यार्थी चुनौतियों का सामना निरंतर आशावाद के साथ करता है, जबकि दूसरा विद्यार्थी दुश्चिंता के साथ करता है। कौन-सी अवधारणा प्रदर्शित की जा रही है?

- Ans
- 1. विद्यार्थियों पर कक्षा के परिवेश का प्रभाव
 - 2. व्यक्तित्व लक्षणों में व्यक्तिगत भिन्नताएँ
 - 3. बाल्यावस्था में अधिगम कठिनाइयों का विकास
 - 4. बच्चों पर पारिवारिक परंपराओं का प्रभाव

Question ID : 4410091628647
Option 1 ID : 4410096432736
Option 2 ID : 4410096432734
Option 3 ID : 4410096432737
Option 4 ID : 4410096432735

Q.18 शैक्षिक असमानता को कम करने के लिए, सरकार ने ग्रामीण क्षेत्रों में निशुल्क डिजिटल साक्षरता कार्यक्रम प्रदान करने की योजना बनाई है। यह पहल किस उद्देशिका प्रयोजन और संवैधानिक महत्व को सर्वोत्तम ढंग से वर्धित करती है?

- Ans
- 1. क्षेत्रीय विविधता का कीर्तिगान करके बंधुत्व
 - 2. अप्रतिबंधित इंटरनेट एक्सेस को बढ़ाकर स्वतंत्रता
 - 3. सभी के लिए अवसरों की उचित पहुंच सुनिश्चित करके न्याय
 - 4. केवल शहरी युवाओं का समर्थन करके समानता

Question ID : 4410091612829
Option 1 ID : 4410096370165
Option 2 ID : 4410096370162
Option 3 ID : 4410096370164
Option 4 ID : 4410096370163

Q.19 निम्नलिखित में से कौन-सा, गरीबी को सर्वोत्तम रूप से परिभाषित करता है?

- Ans
- 1. केवल ग्रामीण जनसंख्या तक सीमित एक स्थिति
 - 2. कम भौतिक संपत्ति के साथ जीवन यापन करने का स्वेच्छिक विकल्प
 - 3. घरेलू खर्चों में अस्थायी कमी
 - 4. न्यूनतम जीवन स्तर बनाए रखने के लिए पर्याप्त संसाधनों का अभाव

Question ID : 4410091572260
Option 1 ID : 4410096210045
Option 2 ID : 4410096210044
Option 3 ID : 4410096210042
Option 4 ID : 4410096210043

Q.20 भारत के कई परिवारों में आर्थिक गरीबी और लैंगिक भेदभाव किस प्रकार परस्पर जुड़कर लड़कियों के लिए शैक्षिक अवसरों को प्रभावित करते हैं?

- Ans
- 1. सरकारी विद्यालयों में शिक्षकों की अनुपस्थिति का उच्च स्तर
 - 2. सीमित संसाधनों के कारण लड़कों की शिक्षा को प्राथमिकता
 - 3. लड़कियों के लिए कम आयु में विवाह की व्यवस्था
 - 4. ग्रामीण क्षेत्रों में लड़कियों के लिए विद्यालयों का अभाव

Question ID : 4410091678816
Option 1 ID : 4410096623476
Option 2 ID : 4410096623474
Option 3 ID : 4410096623473
Option 4 ID : 4410096623475

Section : Discipline2

Q.1 Experiential Learning accelerates learning mainly because it:

- Ans
- 1. Replaces rote learning with critical thinking and problem solving
 - 2. Removes the need for decision-making by participants
 - 3. Focuses primarily on memorizing facts and definitions
 - 4. Relies completely on explanations given by the teacher

Question ID : 4410091572378
Option 1 ID : 4410096210500
Option 2 ID : 4410096210502
Option 3 ID : 4410096210501
Option 4 ID : 4410096210503

Q.2 किसी सचेतन गतिविधि का नेतृत्व करते समय, प्रामाणिकता बढ़ाने के लिए शिक्षक को मुख्यतः किस पर फोकस करना चाहिए?

- Ans
- 1. यह सुनिश्चित करना कि प्रत्येक विद्यार्थी पूरी तरह से मौन रहे
 - 2. सत्र का उपयोग स्वयं के सचेतन का अभ्यास करने के लिए करना
 - 3. विद्यार्थियों की संवेगात्मक अभिव्यक्तियों में संशोधन करना
 - 4. उन्नत सचेतन सिद्धांत का प्रदर्शन करना

Question ID : 4410091644411
Option 1 ID : 4410096494218
Option 2 ID : 4410096494217
Option 3 ID : 4410096494220
Option 4 ID : 4410096494219

Q.3 स्नातकों के लिए अनुभवात्मक अधिगम में अनुचिंतन को महत्वपूर्ण क्यों माना जाता है?

- Ans
- 1. यह सामूहिक कार्य के अवसर प्रदान करता है
 - 2. यह अनुभव को सिद्धांत से जोड़ने में सहायक होता है
 - 3. यह तथ्यों को याद रखना सुनिश्चित करता है
 - 4. यह विद्यार्थियों के कार्यभार को बढ़ाता है

Question ID : 4410091608045
Option 1 ID : 4410096351118
Option 2 ID : 4410096351116
Option 3 ID : 4410096351119
Option 4 ID : 4410096351117

Q.4 In a classroom, students are asked to create sentences using a given set of words. What does this activity primarily assess regarding language?

- Ans
- 1. Their ability to repeat sentences
 - 2. Their skill in pronouncing words correctly
 - 3. Their ability to recognize vocabulary
 - 4. Their grasp of language's structural rules

Question ID : 4410091678987
Option 1 ID : 4410096624160
Option 2 ID : 4410096624159
Option 3 ID : 4410096624157
Option 4 ID : 4410096624158

Q.5 Students participate in a school-community gardening project, then develop presentations connecting their experiences to environmental science concepts. Which phase of Kolb's cycle does the presentation activity primarily represent?

- Ans
- 1. Active Experimentation
 - 2. Concrete Experience
 - 3. Abstract Conceptualisation
 - 4. Reflective Observation

Question ID : 4410091629292
Option 1 ID : 4410096435257
Option 2 ID : 4410096435254
Option 3 ID : 4410096435256
Option 4 ID : 4410096435255

Q.6 कक्षा-कक्ष के अंदर और बाहर दोनों जगह सांस्कृतिक बोध के लिए भाषा क्यों महत्वपूर्ण है?

- Ans
- 1. यह बहुभाषी संचार कार्यनीतियों के संपर्क को सीमित करता है।
 - 2. यह विभिन्नताओं को न्यूनतम करके सांस्कृतिक एकरूपता को बढ़ावा देता है।
 - 3. यह सांस्कृतिक विषयवस्तु के बजाय भाषाई रूप पर दृढ़ता से केंद्रित है।
 - 4. यह विविध परिप्रेक्ष्य तक पहुंच प्रदान करता है और तदनुभूति को बढ़ावा देता है।

Question ID : 4410091554854
Option 1 ID : 4410096142050
Option 2 ID : 4410096142047
Option 3 ID : 4410096142048
Option 4 ID : 4410096142049

Q.7 एक विद्यालय स्थानीय सामुदायिक मुद्दों और वैश्विक दृष्टिकोणों को एकीकृत करके विविध विद्यार्थियों की आवश्यकताओं को बेहतर ढंग से पूरा करने के लिए अपनी पाठ्यचर्या को फिर से डिज़ाइन करना चाहता है। इस उपागम के लिए किस प्रकार की पाठ्यचर्या सबसे उपयुक्त है?

- Ans
- 1. प्रच्छन्न पाठ्यचर्या
 - 2. गतिविधि-आधारित पाठ्यचर्या
 - 3. विषय-केंद्रित पाठ्यचर्या
 - 4. एकीकृत पाठ्यचर्या

Question ID : 4410091624671
Option 1 ID : 4410096417216
Option 2 ID : 4410096417218
Option 3 ID : 4410096417215
Option 4 ID : 4410096417217

Q.8 शिक्षा में दुःखांत फिल्म कथाएँ भावनात्मक बुद्धिमत्ता के किस क्षेत्र को सबसे प्रभावी ढंग से मजबूत करती हैं?

- Ans
- 1. संवादों को शब्द-दर-शब्द याद रखना
 - 2. नैतिक तर्क और संवेद न शीलता
 - 3. जटिल मानवीय अंतःक्रियाओं से बचना
 - 4. दैनिक चुनौतियों पर त्वरित प्रतिक्रिया

Question ID : 4410091553517
Option 1 ID : 4410096136741
Option 2 ID : 4410096136740
Option 3 ID : 4410096136742
Option 4 ID : 4410096136739

Q.9 बहुभाषी कक्षा में, कौन-सा उपागम सभी विद्यार्थियों के लिए प्रारंभिक साक्षरता को सर्वोत्तम रूप से बढ़ावा देता है?

- Ans
- 1. केवल बहुसंख्यक भाषा का प्रयोग करना
 - 2. मातृभाषा के प्रयोग को हतोत्साहित करना
 - 3. विभिन्न भाषाई पृष्ठभूमियों को समाविष्टि करना
 - 4. अनुवाद अभ्यासों पर ध्यान केंद्रित करना

Question ID : 4410091633040
Option 1 ID : 4410096450279
Option 2 ID : 4410096450280
Option 3 ID : 4410096450278
Option 4 ID : 4410096450281

Q.10 Which approach is suitable for teaching difficult texts or concepts in a multilingual classroom?

- Ans
- 1. Avoiding the use of children's cultural resources.
 - 2. Using children's L1 for higher-order thinking and reasoning.
 - 3. Teaching exclusively in the dominant language.
 - 4. Emphasizing rote memorization in the national language.

Question ID : 4410091654306
Option 1 ID : 4410096532235
Option 2 ID : 4410096532232
Option 3 ID : 4410096532233
Option 4 ID : 4410096532234

Q.11 अपने विचारों, संवेगों और व्यवहार का प्रेक्षण करना सीखते समय, कौन सा अभ्यास वस्तुनिष्ठ आत्म-बोध को सबसे प्रत्यक्ष रूप से सुगम बनाता है?

- Ans
- 1. विशिष्ट व्यवहारिक लक्ष्य निर्धारित करना और दैनिक प्रगति का ट्रैक रखना।
 - 2. प्रतिपुष्टि के लिए समूह चर्चाओं में व्यक्तिगत अनुभवों को खुलकर साझा करना।
 - 3. आंतरिक अनुभवों का गैर-निर्णयात्मक (non-judgmental) प्रेक्षण में संलग्न होना।
 - 4. संवेगात्मक ट्रिगर्स (triggers) के बीत जाने के बाद ही उनका विश्लेषण करना।

Question ID : 4410091631181
Option 1 ID : 4410096442950
Option 2 ID : 4410096442949
Option 3 ID : 4410096442948
Option 4 ID : 4410096442951

red expectations that guide group behaviour are known as:

- size
- roles
- goals
- norms

Question ID : 4410091641921
Option 1 ID : 4410096484768
Option 2 ID : 4410096484766
Option 3 ID : 4410096484767
Option 4 ID : 4410096484765

bert Mead's symbolic interactionist framework, the "concept" of
is a developmental process culminates in the "generalized other,"
vidual internalizes:

- c role expectations from primary group interactions shaping self-concept
- d personal reflections independent of symbolic communication processes
- ict societal attitudes and expectations through role-taking stages
- :te behavioral reinforcements from secondary institutions like schools

Question ID : 4410091552747
Option 1 ID : 4410096133372
Option 2 ID : 4410096133375
Option 3 ID : 4410096133373
Option 4 ID : 4410096133374

ut gender equality, the teacher encourages students to identify
as and discuss alternatives. Which classroom skill is this activity
ngthen?

- rizing dialogue
- rg camera handling
- il questioning and media literacy
- :ing set design

Question ID : 4410091629220
Option 1 ID : 4410096434976
Option 2 ID : 4410096434975
Option 3 ID : 4410096434974
Option 4 ID : 4410096434977

Following is a key characteristic of journal writing that supports self-reflection?

- Encourages honest and open expression
- Requires formal language
- Is shared with others for feedback
- Focuses only on academic topics

Question ID : 4410091649985
Option 1 ID : 4410096516059
Option 2 ID : 4410096516058
Option 3 ID : 4410096516060
Option 4 ID : 4410096516061

लिखित परीक्षा के अलावा अवलोकन, मौखिक प्रश्नों और परियोजना के माध्यम से मूल्यांकन करता है, तो यहाँ किस मूल्यांकन पद्धति का उपयोग किया जा रहा है?

- ठोस प्रमाण पर निर्भर रहना
- व्यक्तिगत कौशल की उपेक्षा करना
- वैकल्पिक स्रोतों का उपयोग करना
- केवल एक ही विधि का उपयोग करके मूल्यांकन करना

Question ID : 4410091547805
Option 1 ID : 4410096114058
Option 2 ID : 4410096114057
Option 3 ID : 4410096114056
Option 4 ID : 4410096114055

कौशल को किस वर्ग इकाइयों में मापा जाता है?

Question ID : 4410091629566
Option 1 ID : 4410096436353
Option 2 ID : 4410096436352
Option 3 ID : 4410096436350
Option 4 ID : 4410096436351

विकक्षा में प्रश्न पूछता है, तो भाषा का कौन-सा प्रकार्य मुख्य रूप से उपयोग होता है?

- क प्रकार्य (Regulatory function)
- क प्रकार्य (Aesthetic function)
- क प्रकार्य (Expressive function)
- क प्रकार्य (Communicative function)

Question ID : 4410091698900
Option 1 ID : 4410096701228
Option 2 ID : 4410096701225
Option 3 ID : 4410096701226
Option 4 ID : 4410096701227

यह मूल्यांकन करना चाहती है कि क्या उसकी पाठ योजना विद्यार्थियों में उच्च कोटि साहित्य करती है। यह निर्णय लेने के लिए उसे किस चरण की समीक्षा करनी चाहिए?

- क के लिए समापन रणनीतियों का अभिकल्पन
- क के लिए अनुदेशनात्मक सामग्री की समीक्षा
- क के लिए उद्देश्यों का निर्माण
- क के लिए समय-निर्धारण गतिविधियां

Question ID : 4410091630144
Option 1 ID : 4410096438705
Option 2 ID : 4410096438703
Option 3 ID : 4410096438702
Option 4 ID : 4410096438704

शिक्षणशास्त्रीय कौशलों को सामान्यतः किन दो मुख्य समूहों में विभाजित किया

- क कौशल और आकलन कौशल
- क कौशल और प्रशासनिक कौशल
- क प्रबंधन कौशल और विषयवस्तु संबंधी कौशल
- क चिंतन कौशल और संवेगात्मक बुद्धिमत्ता

Question ID : 4410091619440
Option 1 ID : 4410096396616
Option 2 ID : 4410096396618
Option 3 ID : 4410096396617
Option 4 ID : 4410096396619

1. में अभिभावक-शिक्षक संघ (PTA) का मुख्य उद्देश्य क्या होता है?

- ता और शिक्षकों के बीच सहयोग को मजबूत करना।
- ालय प्रणाली के लिए पाठ्यपुस्तकों का चयन करना।
- क्षण में शिक्षकों को प्रतिस्थापित करना।
- ता और स्कूल प्रबंधन के मध्य संघर्ष पैदा करना।

Question ID : 4410091548494
Option 1 ID : 4410096116674
Option 2 ID : 4410096116675
Option 3 ID : 4410096116672
Option 4 ID : 4410096116673

2. Partnership role does the Director of Primary Education typically perform in school culture?

- ring school textbooks
- g schools in adopting effective educational practices
- zing local community events
- ining school buildings

Question ID : 4410091611663
Option 1 ID : 4410096365508
Option 2 ID : 4410096365507
Option 3 ID : 4410096365510
Option 4 ID : 4410096365509

3. क किस प्रकार की कक्षा अंतःक्रिया को प्रोत्साहित करता है?

- द्वारा हस्तक्षेप के बिना सहकर्मी-से-सहकर्मी विचार विमर्श का अवलोकन
- में द्वारा बार-बार मुक्तोत्तर प्रश्न पूछे जाने के बाद प्रामाणिक स्पष्टीकरण
- धिगमकर्ता द्वारा सक्रिय श्रवण और सार्थक सहभागिता
- से प्रत्येक विद्यार्थियों तक संरचित, रैखिक विनिमय

Question ID : 4410091642793
Option 1 ID : 4410096488067
Option 2 ID : 4410096488068
Option 3 ID : 4410096488066
Option 4 ID : 4410096488065

बच्चों के एक समूह को मिलकर मीनार बनाते हुए, विचारों और सामग्रियों को साझा करते हैं; किस प्रकार का खेल है?

अ) खेल (Parallel play)

ब) खेल (Cooperative play)

ग) खेल (Solitary play)

घ) खेल (Associative play)

Question ID : 4410091638853

Option 1 ID : 4410096472990

Option 2 ID : 4410096472988

Option 3 ID : 4410096472989

Option 4 ID : 4410096472991

At the tertiary level, passive vocabulary is typically:

a) smaller than active vocabulary

b) equal to active vocabulary

c) larger than active vocabulary

d) smaller than active vocabulary

Question ID : 4410091580760

Option 1 ID : 4410096244371

Option 2 ID : 4410096244373

Option 3 ID : 4410096244370

Option 4 ID : 4410096244372

In classical conditioning, what is the stimulus that is typically associated with the unconditioned response?

a) Neutral Stimulus

b) Conditioned Response

c) Unconditioned Stimulus

d) Conditioned Stimulus

Question ID : 4410091638829

Option 1 ID : 4410096472894

Option 2 ID : 4410096472895

Option 3 ID : 4410096472892

Option 4 ID : 4410096472893

_____ के रूप में सर्वोत्तम ढंग से व्याख्यायित किया जाता है।

1 कम करने की अचेतन विधि

2 क समायोजन के लिए अधिगमित व्यवहार

3 समाधान के लिए सचेत कार्यनीति

4 कता के सुविचारित विरूपण

Question ID : 4410091580834

Option 1 ID : 4410096244684

Option 2 ID : 4410096244685

Option 3 ID : 4410096244683

Option 4 ID : 4410096244686

_____ following best describes the term 'active vocabulary' for an English learner?

1 a person only understands when reading or listening

2 that are used only by native speakers

3 that are difficult to pronounce

4 : a person regularly uses in speaking and writing

Question ID : 4410091641755

Option 1 ID : 4410096484098

Option 2 ID : 4410096484099

Option 3 ID : 4410096484100

Option 4 ID : 4410096484097

_____ 1) आंदोलनों और सोशल मीडिया ने जेंडर भूमिकाओं के प्रत्यक्षों को किस प्रकार ?

1) त्रंपरिक जेंडर रूढ़िवादिता को मजबूत किया है।

2) महिलाओं के अधिकारों के संबंध में अधिक समावेशी संवाद को बढ़ावा दिया है।

3) हिला सशक्तीकरण को हतोत्साहित किया है।

4) समाज में महिलाओं की सहभागिता को कम कर दिया है।

Question ID : 4410091623231

Option 1 ID : 4410096411622

Option 2 ID : 4410096411620

Option 3 ID : 4410096411621

Option 4 ID : 4410096411623

Following can influence how children understand gender roles in Indian

- expectations and everyday social practices
- equal academic preferences across subjects
- equal handwriting styles developed in early schooling
- uniform classroom routines unrelated to social norms

Question ID : 4410091610176
Option 1 ID : 4410096359595
Option 2 ID : 4410096359597
Option 3 ID : 4410096359596
Option 4 ID : 4410096359598

Effective language use, the notion of appropriateness refers to:

- using formal words in every situation
- using language fit for context, purpose, and audience
- ignoring meaning and ignoring the situation
- ignoring grammar rules without regard to context

Question ID : 4410091548265
Option 1 ID : 4410096115776
Option 2 ID : 4410096115773
Option 3 ID : 4410096115775
Option 4 ID : 4410096115774

Being 'open and curious' होने से सुगमिकरण को क्या लाभ होता है?

- पूछने को हतोत्साहित करता है
- भागियों को बिना किसी आलोचना के भय के स्वयं को अभिव्यक्त करने के लिए प्रोत्साहित करता है
- आलाप को पूर्वनिर्धारित टॉपिक तक सीमित कर देता है
- बल अनुभवी प्रतिभागियों को ही बोलने की अनुमति होती है

Question ID : 4410091608095
Option 1 ID : 4410096351315
Option 2 ID : 4410096351312
Option 3 ID : 4410096351313
Option 4 ID : 4410096351314

Idhood setting, a child observes others playing without joining in but
ills and strategies. This is an example of:

stitive play

y play

re play

ative play

Question ID : 4410091572416

Option 1 ID : 4410096210623

Option 2 ID : 4410096210621

Option 3 ID : 4410096210620

Option 4 ID : 4410096210622

उद्देश्य मानवीय मूल्यों का प्रतिरूपण करके और टीम वर्क को प्रोत्साहित करके, रटने
दृष्टि से हटकर संपूर्णतावादी शिक्षण परिवेश की ओर अग्रसर होना है। इस परिवर्तन का
संस्कृति पर क्या प्रभाव पड़ता है?

एहिक प्रभाविता और कल्याण को बढ़ाता है।

र्थियों के बीच प्रतिस्पर्धा को बढ़ाता है।

र्थियों के अभिकरण और वाक् को सीमित करता है।

ओं में सहयोग को हतोत्साहित करता है।

Question ID : 4410091607656

Option 1 ID : 4410096349588

Option 2 ID : 4410096349589

Option 3 ID : 4410096349590

Option 4 ID : 4410096349591

ollowing best explains why English is often used as the medium of
international higher education institutions?

preserve local languages and traditions.

osen solely due to longstanding academic tradition.

gles students from diverse linguistic backgrounds to communicate and learn

andatory by government regulations in all countries.

Question ID : 4410091627433

Option 1 ID : 4410096428020

Option 2 ID : 4410096428021

Option 3 ID : 4410096428018

Option 4 ID : 4410096428019

नाने और एक प्रभावी फैसिलिटेटर के रूप में सेवा प्रदान करने के संदर्भ में, शिक्षा की त करने के लिए कौन-सा मनोवैज्ञानिक गुणधर्म आवश्यक है, जो मूल्य अंतर्द्वों को निर्देशात्मक निर्णयों का मार्गदर्शन कर सके?

स्य और प्राथमिकताएँ निर्धारित करना

न का सख्ती से प्रवर्तन

पाठ्यपुस्तकों पर निर्भरता

यूनिफॉर्म का मानकीकरण

Question ID : 4410091635932

Option 1 ID : 4410096461704

Option 2 ID : 4410096461703

Option 3 ID : 4410096461705

Option 4 ID : 4410096461706

कौन-सा, वैकल्पिक शिक्षा को पारंपरिक शिक्षा से सर्वोत्तम रूप से पृथक करता है?

कादमिक विषयों पर जोर

ार्थी-शिक्षक अनुपात

अधिगम पर फोकस

न पाठ्यचर्या और शिक्षण विधि

Question ID : 4410091579504

Option 1 ID : 4410096239317

Option 2 ID : 4410096239318

Option 3 ID : 4410096239316

Option 4 ID : 4410096239315

के अनुसार, कौन-सी कक्षाकक्ष गतिविधि प्राथमिक विद्यालय के बच्चों को गणित क्रियात्मक अवस्था से मूर्त संक्रियात्मक अवस्था में संक्रमण करने में सर्वोत्तम तरीके से ?

ओं को सक्रिय सहभागिता के बिना शिक्षक की व्याख्या सुनने के लिए कहना

बंधों का अन्वेषण करने के लिए भौतिक वस्तुओं के व्यावहारिक हेर-फेर को प्रोत्साहित करना

जगणितय प्रतीकों का उपयोग करके गणितय अवधारणाओं की व्याख्या करना

ओं को गुणन सारणी याद करवाना

Question ID : 4410091609758

Option 1 ID : 4410096357947

Option 2 ID : 4410096357944

Option 3 ID : 4410096357946

Option 4 ID : 4410096357945

य स्तर पर गणित शिक्षण का प्राथमिक उद्देश्य निम्नलिखित में से कौन-सा है?

गन सारणियों का स्मरण करना

र्थों में समस्या समाधान कौशल विकसित करना

ठ्ठपुस्तक समापन पर जोर देना

लकुलेशन स्पीड पर ध्यान केंद्रित करना

Question ID : 4410091641699

Option 1 ID : 4410096483875

Option 2 ID : 4410096483876

Option 3 ID : 4410096483878

Option 4 ID : 4410096483877

कौन-सी विशेषता निगमनात्मक उपागम (deductive approach) से संबंधित है?

सामान्य तथ्यों से विशिष्ट नियमों की ओर बढ़ता है

व्व विद्यालय के शिक्षार्थियों के लिए उपयुक्त

के माध्यम से वैज्ञानिक सोच विकसित करता है

केंद्रित और अन्वेषण-आधारित

Question ID : 4410091576666

Option 1 ID : 4410096227500

Option 2 ID : 4410096227501

Option 3 ID : 4410096227502

Option 4 ID : 4410096227499

क्षय, प्राथमिक शिक्षा के निदेशक को किस रूप में देखता है?

न प्रवर्तन पर मुख्यतः ध्यान केंद्रित करने वाले निरीक्षक

की वास्तविकताओं से विलग्न एक एकाकी नौकरशाह

।, समता और गुणवत्ता को सक्षम बनाने वाले सिस्टम लीडर

प्रशासनिक कार्यों तक सीमित लिपिकीय प्राधिकार

Question ID : 4410091583183

Option 1 ID : 4410096254081

Option 2 ID : 4410096254082

Option 3 ID : 4410096254083

Option 4 ID : 4410096254080

वर्तनी द्वारा लिखे गए लघु पैराग्राफों में विचारों की स्पष्टता, वाक्य निर्माण और वर्तनी :। यह आकलन मुख्य रूप से किस पर केंद्रित है?

संप्रेषण कौशल (Oral communication skills)

श्रवण (Listening comprehension)

खन योग्यता (Overall writing ability)

शैशल (Memorisation skills)

Question ID : 4410091690285

Option 1 ID : 4410096667418

Option 2 ID : 4410096667420

Option 3 ID : 4410096667419

Option 4 ID : 4410096667421

ar Translation Method, the medium of instruction is mainly:

nced bilingual medium

get language only

rbal instructional cues

arners' mother tongue

Question ID : 4410091583236

Option 1 ID : 4410096254290

Option 2 ID : 4410096254288

Option 3 ID : 4410096254291

Option 4 ID : 4410096254289

न पाठ्यचर्या में सामाजिक विज्ञान का विषय-क्षेत्र विद्यार्थियों में समालोचनात्मक विकास में किस प्रकार योगदान देता है?

क विज्ञान रटने (rote learning) को प्राथमिकता देते हुए विश्लेषण को हतोत्साहित करते हैं।

क विज्ञान समालोचनात्मक विश्लेषण के लिए रूपरेखा प्रदान करते हैं।

क विज्ञान केवल कंठस्थीकरण (memorization) के लिए ऐतिहासिक तथ्य प्रदान करते हैं।

क अध्ययन में सामाजिक विज्ञान सिद्धांतों के उपयोग को सम्मिलित नहीं किया गया है।

Question ID : 4410091611793

Option 1 ID : 4410096366014

Option 2 ID : 4410096366011

Option 3 ID : 4410096366012

Option 4 ID : 4410096366013

के कौन-सी, निम्न-आय वाले समुदायों की सेवा करने वाले अत्यधिक प्रभावी विद्यालयों
इचानी जाने वाली एक विशेषता है?

- हयोग को हतोत्साहित करना
- अणिक अपेक्षाओं को सपोर्ट करके सीखना
- केकास तक अभिगम को कम करना
- यारी को सीमित करना

Question ID : 4410091604574
Option 1 ID : 4410096337463
Option 2 ID : 4410096337460
Option 3 ID : 4410096337461
Option 4 ID : 4410096337462

कीकृत उपागम से क्या लाभ होता है?

- सहभागिता
- प्रयोग
- अनुशासनों को जोड़ना
- तेविधि

Question ID : 4410091631488
Option 1 ID : 4410096444169
Option 2 ID : 4410096444171
Option 3 ID : 4410096444170
Option 4 ID : 4410096444168

माकलित उपागम की एक प्रमुख विशेषता क्या है?

- अध्ययन की अवधारणाओं को भाषा, गणित और सामाजिक अनुभवों से जोड़ना
- को पूरी तरह से व्यक्तिगत, पाठ्यपुस्तक-आधारित गतिविधियों के माध्यम से व्यवस्थित करना
- अन्य विषयों से संबंध स्थापित किए बिना अलग-थलग विषयों के रूप में पढ़ाना
- द्वारा दिए गए स्पष्टीकरणों के माध्यम से मुख्यतः तथ्यों को याद करने पर फोकस करना

Question ID : 4410091636044
Option 1 ID : 4410096462145
Option 2 ID : 4410096462148
Option 3 ID : 4410096462146
Option 4 ID : 4410096462147

Following best illustrates the role of micro teaching skills in enhancing pedagogic within an optional pedagogic course at the postgraduate

teaching skills emphasize the development of general educational theories over cation.

teaching skills are used primarily for assessing student learning through standardized

teaching skills focus mainly on classroom management strategies for large groups.

teaching skills enable focused practice and feedback and refining instructional

Question ID : 4410091611763

Option 1 ID : 4410096365893

Option 2 ID : 4410096365894

Option 3 ID : 4410096365892

Option 4 ID : 4410096365891

क अध्ययन की मुख्य विशेषता क्या है?

प्रतिरूपण (Mathematical modeling)

त ड्राइंग (Technical drawing)

अयी उपागम (Interdisciplinary approach)

ला प्रयोग (Laboratory experiments)

Question ID : 4410091633535

Option 1 ID : 4410096452237

Option 2 ID : 4410096452236

Option 3 ID : 4410096452234

Option 4 ID : 4410096452235

के कौन-सी, प्राथमिक स्तर पर पर्यावरण अध्ययन (EVS) की एक प्रमुख थीम है?

संरचना

यंजक

और मित्र

क क्रांति

Question ID : 4410091687075

Option 1 ID : 4410096655105

Option 2 ID : 4410096655102

Option 3 ID : 4410096655103

Option 4 ID : 4410096655104

एख, सहयोगात्मक संस्कृति को बनाए रखने के उद्देश्य से एक नई प्रौद्योगिकी पहल को इन दोनों लक्ष्यों को संतुलित करने के लिए कौन-सी प्रशासनिक रणनीति सबसे प्रभावी

- यों की सहभागिता की बजाय नीति अनुपालन पर फोकस करना
- के सुझावों को प्रोत्साहित करना और निरंतर सहयोग प्रदान करना
- र्ग्य किसी बाह्य परामर्शदाता को सौंपना
- सी प्रतिपुष्टि के तत्काल स्वीकृति को अनिवार्य बनाना

Question ID : 4410091611114
Option 1 ID : 4410096363314
Option 2 ID : 4410096363311
Option 3 ID : 4410096363313
Option 4 ID : 4410096363312

ने व्यावसायिक भर्ती परीक्षा में समान मुक्तोत्तर अनुक्रिया पर विभिन्न मूल्यांकनकर्ताओं प्राप्त होते हैं। यह परिदृश्य मुक्तोत्तर समस्या मूल्यांकन के संबंध में किस समस्या को ता है?

- में की अस्पष्ट अनुक्रियाएँ अलग-अलग व्याख्याओं का कारण बनती हैं
- सीमित विविधता समग्र आकलन कवरेज को प्रभावित करती है
- नकर्ताओं के निर्णयों में विचरणशीलता के कारण व्यक्तिपरक स्कोरिंग होती है
- कर्ताओं के लिए सीमित समय जिसके कारण जल्दबाजी में स्कोरिंग की जाती है

Question ID : 4410091614727
Option 1 ID : 4410096377711
Option 2 ID : 4410096377712
Option 3 ID : 4410096377709
Option 4 ID : 4410096377710

ने कौन-सा, विद्यालय स्तर पर सामाजिक विज्ञान के शिक्षण का प्राथमिक उद्देश्य है?

- में को ऐतिहासिक और भौगोलिक तथ्यों को याद करने में सहायता करना
- क समुदाय की सांस्कृतिक परंपराओं को बढ़ावा देना
- यों को जागरूक, तर्कसंगत और सक्रिय नागरिक बनाना
- में को केवल प्रतियोगी परीक्षाओं के लिए तैयार करना

Question ID : 4410091580489
Option 1 ID : 4410096243301
Option 2 ID : 4410096243302
Option 3 ID : 4410096243300
Option 4 ID : 4410096243299

कौन-सा मुक्तोत्तर प्रश्नों (open-ended questions) के संबंध में गलत है?

कार्य एकाग्र करने के स्थान पर समझ को बढ़ाता है।

लिए जो कुछ भी महत्वपूर्ण है, उसके बारे में बात करने के लिए प्रोत्साहित करता है।

उत्तर या तो हाँ या नहीं के रूप में होता है।

उन्हें को अपनी कहानी अपने शब्दों में बताने के लिए आमंत्रित करता है।

Question ID : 4410091548218

Option 1 ID : 4410096115588

Option 2 ID : 4410096115585

Option 3 ID : 4410096115586

Option 4 ID : 4410096115587

सामाजिक विज्ञान शिक्षा का मुख्य उद्देश्य क्या है?

अभिज्ञान को बढ़ावा देना

अभिरक्षणा करना

अभिज्ञान को बढ़ावा देना

अभिरक्षणा करना

Question ID : 4410091635534

Option 1 ID : 4410096460155

Option 2 ID : 4410096460157

Option 3 ID : 4410096460158

Option 4 ID : 4410096460156

कौन-सी, पाठ योजना की एक सीमा है?

किसके लिए एक व्यवस्थित उपागम प्रदान करता है

शिक्षण के दौरान शिक्षक का विश्वास बढ़ाता है

तात्कालिक अनुसरण किया जाए तो शिक्षकों की नम्रता के लिए गुंजाइश बहुत कम रह जाती है

उन्हें को अधिक संबंधी कठिनाइयों का पूर्वानुमान लगाने में सहायता करता है

Question ID : 4410091572464

Option 1 ID : 4410096210788

Option 2 ID : 4410096210791

Option 3 ID : 4410096210789

Option 4 ID : 4410096210790

Following is a domain where pre-service teachers are expected to set instructional objectives?

- Language learning
- Classroom management
- Science subjects
- Content levels and domains

Question ID : 4410091608594
 Option 1 ID : 4410096353296
 Option 2 ID : 4410096353299
 Option 3 ID : 4410096353297
 Option 4 ID : 4410096353298

Lesson plan's five-step sequence emphasizes what progression distinct cognitive domain hierarchy?

- Attention, motivation, drill, practice, testing—aligning behavioral objectives, surpassing generalization—annually, class-wise.
- Knowledge, comprehension, application, analysis, synthesis, evaluation—prioritizing progression beyond apperception—quarterly.
- Attention, presentation, comparison-association, generalization, application: fostering knowledge assimilation—systematically.
- Review, strategies, assessment, reflection, revision—integrating reflective cycles, partial steps—district-wide, holistically.

Question ID : 4410091564143
 Option 1 ID : 4410096178171
 Option 2 ID : 4410096178170
 Option 3 ID : 4410096178169
 Option 4 ID : 4410096178172

प्रथमिक विद्यार्थियों को "संवेदनशील प्राकृतिक संतुलन" के बारे में पढ़ाने की योजना बनाने के प्रति जिम्मेदारी की भावना को प्रभावी ढंग से विकसित करने के लिए कौन-सी चीज चाहिए?

- डिजिटल पठन (reading) निर्दिष्ट करना
- संरचनाओं का आरेखण
- प्राकृतिक विज्ञान पर विस्तृत व्याख्यान
- वनोन्मूलन की घटनाओं का विश्लेषण

Question ID : 4410091550862
 Option 1 ID : 4410096125729
 Option 2 ID : 4410096125730
 Option 3 ID : 4410096125727
 Option 4 ID : 4410096125728

Explains grammar rules and asks students to translate sentences. Which method is used?

Direct translation method

Indirect method

Communicative approach

Authentic method

Question ID : 4410091570052

Option 1 ID : 4410096201211

Option 2 ID : 4410096201209

Option 3 ID : 4410096201212

Option 4 ID : 4410096201210

एकलिंग विशेषता यह है कि वैज्ञानिक ज्ञान _____ होता है।

और नए साक्ष्यों के साथ संशोधन के अधीन

प्रयोगों में निश्चित और स्थायी रूप से सत्य

और प्रयोगीकरण से स्वतंत्र

व्यक्तिगत मत पर आधारित

Question ID : 4410091588635

Option 1 ID : 4410096275235

Option 2 ID : 4410096275232

Option 3 ID : 4410096275234

Option 4 ID : 4410096275233

Gender analysis aims to address gender reproduction by:

Identifying stereotypes and power relations

Identifying content for examination preparation

Counting the number of female characters only

Identifying social contexts from narratives

Question ID : 4410091589014

Option 1 ID : 4410096276719

Option 2 ID : 4410096276718

Option 3 ID : 4410096276716

Option 4 ID : 4410096276717

न किट का उपयोग करने का मुख्य शिक्षण-संबंधी उद्देश्य क्या है?

स्पष्टीकरणों पर निर्भरता कम करना

ज्ञानिक शब्दावली को सरल बनाना

तीन स्तरों में आकलन को मानकीकृत करना

समय और व्यावहारिक अधिगम को बढ़ावा देना

Question ID : 4410091624218

Option 1 ID : 4410096415441

Option 2 ID : 4410096415442

Option 3 ID : 4410096415440

Option 4 ID : 4410096415439

Which is the correct sequence of the revised cognitive levels of Bloom's Taxonomy.

Remember → Understand → Apply → Evaluate → Analyze → Create

Remember → Understand → Analyze → Create → Evaluate

Remember → Apply → Understand → Evaluate → Create → Analyze

Remember → Understand → Apply → Analyze → Evaluate → Create

Question ID : 4410091572482

Option 1 ID : 4410096210857

Option 2 ID : 4410096210858

Option 3 ID : 4410096210859

Option 4 ID : 4410096210856

Which best supports the inclusion of students with a wide range of abilities in a diverse classroom?

Implementing universal design for learning across all lessons

Peer-mediated instruction with structured guidance

Providing differentiated instruction tailored to each student's needs

Grouping students by ability while providing flexible support

Question ID : 4410091626543

Option 1 ID : 4410096424544

Option 2 ID : 4410096424545

Option 3 ID : 4410096424547

Option 4 ID : 4410096424546

'Boys are naturally strong' and 'girls are naturally gentle' reflect:

Reality development theories

Construction of gender

Biological differences

Gender performance norms

Question ID : 4410091570310

Option 1 ID : 4410096202226

Option 2 ID : 4410096202228

Option 3 ID : 4410096202225

Option 4 ID : 4410096202227

जब अनुदेशनात्मक सामग्री का शिक्षण सहायक सामग्री के रूप में प्रयोग किया जाता है, तो शिक्षक की क्षमता बढ़ाने के लिए कौन-सी प्राथमिक भूमिका निभाती है?

विकास को सुगम बनाना

अभ्यास प्रदान करना

अनुदेशनों का पूरक होना

सहयोग करना

Question ID : 4410091636742

Option 1 ID : 4410096464843

Option 2 ID : 4410096464841

Option 3 ID : 4410096464842

Option 4 ID : 4410096464844

एक क्षेत्र को निम्नतम से उच्चतम क्षमताओं के क्रम में व्यवस्थित कीजिए:

Organising)

(Responding)

Receiving)

Characterising)

)

1-5

1-4

1-5

1-5

Question ID : 4410091548262

Option 1 ID : 4410096115763

Option 2 ID : 4410096115762

Option 3 ID : 4410096115764

Option 4 ID : 4410096115761

वाले एक विद्यालय में विज्ञान की एक शिक्षिका संपूर्ण वर्ष चलने वाली व्यावहारिक कर रही है। उन्हें यह सुनिश्चित करना होगा कि विद्यार्थियों को आवश्यक उपकरणों की । हो, वे एक ही सामग्री का उपयोग करके विभिन्न प्रकार के प्रयोग कर सकें और तैयारी में न्यूनतम समय लगे। विज्ञान किट का कौन-सा पहलू इन सभी आवश्यकताओं से प्रत्यक्ष रूप से पूरा करता है?

चने के लिए प्रत्येक प्रयोग के प्रकार के लिए अलग-अलग किट

ोकता के लिए आयातित घटकों पर विशेष ध्यान

बनाए रखने के लिए केवल एकल उपयोग होने वाली वस्तुओं का प्रावधान

गों के लिए बहुमुखी उपकरणों का केंद्रीकृत संग्रह

Question ID : 4410091617185

Option 1 ID : 4410096387640

Option 2 ID : 4410096387641

Option 3 ID : 4410096387642

Option 4 ID : 4410096387639

। आकलन से पहले, विद्यालय को _____ प्राप्त करना चाहिए।

ता से लिखित सहमति

यों के हस्ताक्षर

कार्यालयों से अनुमोदन

ॉनीटर से नोट

Question ID : 4410091572516

Option 1 ID : 4410096210992

Option 2 ID : 4410096210994

Option 3 ID : 4410096210993

Option 4 ID : 4410096210995

मानता का मुख्यतः क्या अर्थ है?

ोक्षा के माध्यम से जैविक भिन्नताओं को समाप्त करना

! विचार किए बिना सभी शिक्षार्थियों के साथ एक जैसा व्यवहार करना

डर के लिए समान अधिकार और अवसर सुनिश्चित करना

बालिकाओं की शिक्षा संबंधी पहलों पर ध्यान केंद्रित करना

Question ID : 4410091589255

Option 1 ID : 4410096277615

Option 2 ID : 4410096277612

Option 3 ID : 4410096277614

Option 4 ID : 4410096277613

What is the main purpose of the LSRW approach in language education?

Develop comprehensive language abilities

Focus only on grammar rules

Learn vocabulary quickly

Learn about different cultures

Question ID : 4410091623655

Option 1 ID : 4410096413201

Option 2 ID : 4410096413202

Option 3 ID : 4410096413200

Option 4 ID : 4410096413203

Which of the following statements is incorrect about real numbers?

Real numbers do not include integers.

Real numbers include both rational and irrational numbers.

Real numbers include whole numbers.

Real numbers include natural numbers.

Question ID : 4410091548292

Option 1 ID : 4410096115882

Option 2 ID : 4410096115881

Option 3 ID : 4410096115883

Option 4 ID : 4410096115884

Which of the following involves reasoning from general principles to specific cases?

Inductive reasoning

Deduction

Abductive reasoning

Inductive method

Question ID : 4410091635720

Option 1 ID : 4410096460867

Option 2 ID : 4410096460870

Option 3 ID : 4410096460868

Option 4 ID : 4410096460869

काउंसिल ऑफ टीचर्स ऑफ मैथमेटिक्स) के विषय-वस्तु मानकों में बीजगणित मानक कस क्या है?

में को विशेष रूप से उच्च माध्यमिक गणित पाठ्यक्रमों के लिए तैयार करना

ोजगणितीय समीकरणों को हल करने के लिए प्रक्रियात्मक तकनीकों में पारंगतता प्राप्त करना

में, संबंधों और प्रकार्यात्मक तर्क की समझ विकसित करना

तीय सूत्रों और प्रतीकात्मक हेरफेर नियमों को याद करना

Question ID : 4410091603163

Option 1 ID : 4410096331851

Option 2 ID : 4410096331848

Option 3 ID : 4410096331849

Option 4 ID : 4410096331850

द्यालय के शिक्षक ने विद्यार्थियों को टैंग्राम पहली की चुनौती दी, जिसमें उन्हें पारंपरिक डेज़ाइन बनाने के लिए कहा गया। इस गतिविधि के माध्यम से मनोरंजक गणित का दृश्य पूर्ण होता है?

त मूल्यांकन के लिए विद्यार्थियों को तैयार करना

माध्यम से सांस्कृतिक समावेशिता और देशिक तर्क को बढ़ावा देना

जगणितीय गणनाओं पर ध्यान केंद्रित करना

गणित तकनीकों को पढ़ाना

Question ID : 4410091619105

Option 1 ID : 4410096395290

Option 2 ID : 4410096395289

Option 3 ID : 4410096395291

Option 4 ID : 4410096395288

कौन-सी, एक अमूर्त गणितीय अवधारणा है?

2"

लिए उंगलियों का उपयोग

की तस्वीर

Question ID : 4410091572490

Option 1 ID : 4410096210888

Option 2 ID : 4410096210890

Option 3 ID : 4410096210889

Option 4 ID : 4410096210891

के बावजूद एक बच्चे को सरल शब्दों को पढ़ने में कठिनाई होती है। यह कठिनाई
क्या करती है।

अशक्तता

क विक्षोभ

अधिगम कठिनाई

चि की कमी

Question ID : 4410091570297

Option 1 ID : 4410096202175

Option 2 ID : 4410096202173

Option 3 ID : 4410096202174

Option 4 ID : 4410096202176

के कौन-सा, शिक्षा में जेंडर समानता की अवधारणा का सर्वोत्तम वर्णन करता है?

जेंडर संबंधी मुद्दों को अप्रासंगिक मानना

कल जेंडर के लिए शैक्षिक सहायता को प्राथमिकता देना

जेंडर भूमिकाओं के आधार पर सहभागिता को सीमित करना

डर के लिए समान पहुंच और अवसरों को सुनिश्चित करना

Question ID : 4410091618966

Option 1 ID : 4410096394739

Option 2 ID : 4410096394737

Option 3 ID : 4410096394738

Option 4 ID : 4410096394736

Integrates gender-transformative materials and ensures a safe
environment for LGBTIQ students, what outcome is most likely?

Increased competition between boys and girls for top grades

Discussions on traditional gender roles in classroom discussions

Increased inclusion and equitable learning opportunities for all

Increased participation by students from diverse backgrounds

Question ID : 4410091633918

Option 1 ID : 4410096453763

Option 2 ID : 4410096453765

Option 3 ID : 4410096453762

Option 4 ID : 4410096453764