



GOVT. OF NCT OF DELHI
Delhi Subordinate Services Selection Board
FC-18, Institutional Area, Karkardooma, Delhi – 110092.
www.dsssb.delhigovt.nic.in

Participant ID	██████████ 1378
Participant Name	██████████
Test Center Name	Aadarsh Pariksha Kendra CENTER B - Gate No 2 - Noida Sector 64
Test Date	03/04/2026
Test Time	1:00 PM - 3:00 PM
Subject	Assistant Teacher Primary

Section : General Intelligence and Reasoning Ability

Q.1 यदि 'P' का अर्थ '+' है, 'Q' का अर्थ 'x' है, 'R' का अर्थ '-' है और 'S' का अर्थ '-' है, तो निम्नलिखित समीकरण में प्रश्न-चिह्न '?' के स्थान पर क्या आएगा?

$$288 R 34 Q 8 S 176 P 8 = ?$$

- Ans
- 1. 508
 - 2. 520
 - 3. 524
 - 4. 538

Question ID : 4410091528049
Option 1 ID : 4410096035393
Option 2 ID : 4410096035394
Option 3 ID : 4410096035395
Option 4 ID : 4410096035396

Adda247

Test Prime

ALL EXAMS, ONE SUBSCRIPTION



1,00,000+
Mock Tests



**Personalised
Report Card**



**Unlimited
Re-Attempt**



600+
Exam Covered



25,000+ Previous
Year Papers



500%
Refund



ATTEMPT FREE MOCK NOW

Q.2 निम्नलिखित अक्षर और प्रतीक श्रृंखला का संदर्भ लीजिए और उसके बाद दिए गए प्रश्न का उत्तर दीजिए। गिनती केवल बाएँ से दाएँ की जानी है।
(बाएँ) V J @ P H # M € K D N € C T \$ A * G F £ T O (दाएँ)
ऐसे कितने अक्षर हैं, जिनमें से प्रत्येक के ठीक पहले एक प्रतीक और ठीक बाद में भी एक प्रतीक है?

- Ans
- 1. 2
 - 2. 3
 - 3. 1
 - 4. 4

Question ID : 441009795656
Option 1 ID : 4410093136623
Option 2 ID : 4410093136624
Option 3 ID : 4410093136625
Option 4 ID : 4410093136626

Q.3 D, E का भाई है। E, F की पुत्री है। F का विवाह G से हुआ है। G, H का पुत्र है। H का विवाह I से हुआ है। I, J की माता है। I का E से क्या संबंध है?

- Ans
- 1. पुत्री
 - 2. माता की बहन
 - 3. पिता की माता
 - 4. माता की माता

Question ID : 441009832717
Option 1 ID : 4410093284082
Option 2 ID : 4410093284083
Option 3 ID : 4410093284081
Option 4 ID : 4410093284080

Q.4 अंग्रेजी वर्णमाला क्रम के आधार पर दी गई श्रृंखला में ? के स्थान पर क्या आना चाहिए?

BKOS FOSW JSWA NWA E ?

- Ans
- 1. RIOP
 - 2. RASE
 - 3. REAI
 - 4. RAEI

Question ID : 4410091614437
Option 1 ID : 4410096376568
Option 2 ID : 4410096376567
Option 3 ID : 4410096376566
Option 4 ID : 4410096376565

Q.5 अंग्रेजी वर्णमाला क्रम पर आधारित, निम्नलिखित चार अक्षर-समूहों में से तीन एक निश्चित तरीके से एकसमान हैं और इस प्रकार एक युप बनाते हैं। कौन-सा अक्षर-समूह उस युप से संबंधित नहीं है? (नोट: असंगत अक्षर-समूह, व्यंजनों/स्वरों की संख्या या उनकी स्थिति पर आधारित नहीं है।)

- Ans
- 1. NKM
 - 2. MKL
 - 3. BYA
 - 4. WTV

Question ID : 441009764839
 Option 1 ID : 4410093013351
 Option 2 ID : 4410093013349
 Option 3 ID : 4410093013352
 Option 4 ID : 4410093013350

Q.6 निम्नलिखित समीकरण में '+' और '-' को आपस में बदल देने पर तथा 'x' और '÷' को आपस में बदल देने पर '?' के स्थान पर क्या आएगा?

$$50 \div 2 + 60 \times 3 - 8 = ? + 2$$

- Ans
- 1. 80
 - 2. 90
 - 3. 100
 - 4. 70

Question ID : 441009554376
 Option 1 ID : 4410092172819
 Option 2 ID : 4410092172820
 Option 3 ID : 4410092172821
 Option 4 ID : 4410092172818

Q.7 दी गई शृंखला में प्रश्न चिह्न (?) के स्थान पर क्या आएगा?

$$-20, -18, -4, 30, 92, ?$$

- Ans
- 1. 190
 - 2. 200
 - 3. 180
 - 4. 160

Question ID : 441009605321
 Option 1 ID : 4410092376403
 Option 2 ID : 4410092376404
 Option 3 ID : 4410092376402
 Option 4 ID : 4410092376401

Q.8 यदि शब्द PROCLAIM के प्रत्येक अक्षर को अंग्रेजी वर्णमाला क्रम में व्यवस्थित किया जाए, तो कितने अक्षरों की स्थिति अपरिवर्तित रहेगी?

Ans 1. एक की भी नहीं

2. एक

3. तीन

4. दो

Question ID : 441009763966

Option 1 ID : 4410093009857

Option 2 ID : 4410093009858

Option 3 ID : 4410093009860

Option 4 ID : 4410093009859

Q.9 AWAITING शब्द में प्रत्येक स्वर को अंग्रेजी वर्णमाला क्रम में उसके बाद आने वाले अक्षर को छोड़कर अगले अक्षर से बदल दिया जाता है और प्रत्येक व्यंजन को अंग्रेजी वर्णमाला क्रम में उसके ठीक पहले आने वाले अक्षर से बदल दिया जाता है। इस प्रकार बने अक्षरों के नए समूह में कितने अक्षर ठीक दो बार दिखाई देंगे?

Ans 1. दो

2. एक

3. तीन

4. चार

Question ID : 441009216467

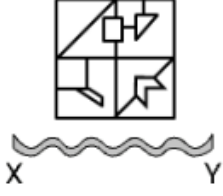
Option 1 ID : 441009849908

Option 2 ID : 441009849907

Option 3 ID : 441009849909

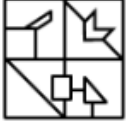
Option 4 ID : 441009849910

Q.10 यदि एक जल स्रोत को X-Y के अनुदिश रखा जाता है, जैसा कि दिए गए चित्र में दिखाया गया है, तो दिए गए विकल्पों में से कौन-सा निम्न चित्र का जल प्रतिबिंब होगा?



Ans

✓ 1.



✗ 2.



✗ 3.



✗ 4.



Question ID : 4410091614519

Option 1 ID : 4410096376891

Option 2 ID : 4410096376890

Option 3 ID : 4410096376889

Option 4 ID : 4410096376892

Q.11 E, F, G, I, K, L और M में से प्रत्येक की परीक्षा सोमवार से शुरू होकर रविवार को समाप्त होने वाले एक ही सप्ताह के अलग-अलग दिन होती है। I की परीक्षा गुरुवार को होती है और G की परीक्षा शनिवार को होती है। E की परीक्षा L से ठीक पहले होती है। K की परीक्षा F के बाद किसी दिन होती है। M की परीक्षा L के ठीक बाद होती है। K और M के बीच कितने लोगों की परीक्षा होती है?

Ans

✗ 1. एक

✓ 2. तीन

✗ 3. चार

✗ 4. दो

Question ID : 441009216461

Option 1 ID : 441009849883

Option 2 ID : 441009849885

Option 3 ID : 441009849886

Option 4 ID : 441009849884

Q.12 निम्नलिखित अक्षर श्रृंखला का संदर्भ लीजिए और प्रश्न का उत्तर दीजिए।
(बाएँ) Z P T V T Q O H F M W W I Z R X I I C (दाएँ)
ऐसे कितने व्यंजन हैं जिनमें से प्रत्येक के ठीक पहले एक स्वर और ठीक बाद में एक व्यंजन है?

- Ans 1. 2
 2. 3
 3. 1
 4. 4

Question ID : 441009779686
Option 1 ID : 4410093072748
Option 2 ID : 4410093072749
Option 3 ID : 4410093072747
Option 4 ID : 4410093072750



Q.13 जब दर्पण को चित्रानुसार MN पर रखा जाता है, तो दी गई आकृति के सही दर्पण प्रतिबिंब का चयन कीजिए।



Ans

✓ 1.



✗ 2.



✗ 3.



✗ 4.



Question ID : 441009864841
 Option 1 ID : 4410093412464
 Option 2 ID : 4410093412467
 Option 3 ID : 4410093412466
 Option 4 ID : 4410093412465

Q.14 अंग्रेज़ी वर्णमाला क्रम पर आधारित, निम्नलिखित चार अक्षर-समूह युग्मों में से तीन एक निश्चित प्रकार से समान हैं और इस प्रकार वे एक ग्रुप बनाते हैं। कौन-सा अक्षर-समूह युग्म, उस ग्रुप से संबंधित नहीं है? (नोट: असंगत अक्षर-समूह युग्म, व्यंजनों/स्वरों की संख्या या उनकी स्थिति पर आधारित नहीं है।)

- Ans
- 1. CD - FG
 - 2. TU - WX
 - 3. MN - PQ
 - 4. IJ - MN

Question ID : 441009790213
Option 1 ID : 4410093114851
Option 2 ID : 4410093114853
Option 3 ID : 4410093114852
Option 4 ID : 4410093114854

Q.15 Q, U, I, L, T और S एक ही इमारत की छह अलग-अलग मंजिलों पर रहते हैं। इमारत की सबसे निचली मंजिल का क्रमांक 1 है, उसके ऊपर वाली मंजिल का क्रमांक 2 है, और इसी तरह सबसे ऊपरी मंजिल का क्रमांक 6 है।

U एक सम संख्या वाली मंजिल पर रहता है, लेकिन चौथी मंजिल पर नहीं। U और Q के बीच केवल दो लोग रहते हैं। T एक विषम संख्या वाली मंजिल पर रहता है, लेकिन सबसे निचली मंजिल पर नहीं। T और L के बीच केवल दो लोग रहते हैं। I, T के ठीक नीचे रहता है। S और I के बीच कितने लोग रहते हैं?

- Ans
- 1. एक
 - 2. चार
 - 3. दो
 - 4. तीन

Question ID : 4410091518902
Option 1 ID : 4410095998862
Option 2 ID : 4410095998865
Option 3 ID : 4410095998863
Option 4 ID : 4410095998864

Q.16 एक निश्चित तर्क के अनुसार JF 18 का संबंध HA 5 से है। उसी प्रकार, DL 9 का संबंध BG -4 से है। समान तर्क का अनुसरण करते हुए, HY 12 का संबंध निम्नलिखित में से किससे है?

- Ans
- 1. FS -3
 - 2. ES -1
 - 3. FT -1
 - 4. ET -3

Question ID : 441009778963
Option 1 ID : 4410093069855
Option 2 ID : 4410093069857
Option 3 ID : 4410093069856
Option 4 ID : 4410093069858

Q.17 एक निश्चित तर्क अनुसरण करते हुए, 8 का संबंध 54 से है। समान तर्क का अनुसरण करते हुए, 9 का संबंध 61 से है। समान तर्क का अनुसरण करने पर, 5 का संबंध निम्नलिखित में से किस विकल्प से हैं? (नोट: संख्याओं को उनके घटक अंकों में तोड़े बिना, पूर्ण संख्याओं पर संक्रियाएं की जानी चाहिए। उदाहरण के लिए 13 लीजिए, 13 पर संक्रियाएं जैसे कि 13 में जोड़ना/घटाना/गुणा करना, किया जा सकता है। 13 को 1 और 3 में तोड़ना तथा फिर 1 और 3 पर गणितीय संक्रियाएं करने की अनुमति नहीं है।)

- Ans
- 1. 34
 - 2. 35
 - 3. 31
 - 4. 33

Question ID : 441009551972
Option 1 ID : 4410092163205
Option 2 ID : 4410092163203
Option 3 ID : 4410092163204
Option 4 ID : 4410092163202

Q.18 E, F, G, H, Q, R और S में से प्रत्येक की परीक्षा, सोमवार से शुरू होकर रविवार को समाप्त होने वाले एक ही सप्ताह के अलग-अलग दिन होती है। H से पहले किसी की भी परीक्षा नहीं है। H और R के बीच केवल तीन व्यक्तियों की परीक्षा है। R और E के बीच केवल एक व्यक्ति की परीक्षा है। S की परीक्षा बुधवार को है। F की परीक्षा Q के बाद किसी दिन लेकिन G से पहले किसी दिन है। F की परीक्षा सप्ताह के किस दिन है?

- Ans
- 1. शुक्रवार
 - 2. गुरुवार
 - 3. शनिवार
 - 4. सोमवार

Question ID : 4410091618856
Option 1 ID : 4410096394298
Option 2 ID : 4410096394297
Option 3 ID : 4410096394299
Option 4 ID : 4410096394296

Q.19 एक निश्चित कूट भाषा में, 'FACE' को '4975' के रूप में कूटबद्ध किया जाता है और 'ACES' को '9476' के रूप में कूटबद्ध किया जाता है। उस भाषा में 'S' के लिए कूट क्या होगा?

- Ans
- 1. 6
 - 2. 7
 - 3. 9
 - 4. 5

Question ID : 4410091619035
Option 1 ID : 4410096395012
Option 2 ID : 4410096395015
Option 3 ID : 4410096395014
Option 4 ID : 4410096395013

Q.20 सात व्यक्ति, E, F, G, H, K, L और N, उत्तर की ओर अभिमुख होकर एक पंक्ति में बैठे हैं। N के बाईं ओर केवल H बैठा है। H और K के बीच केवल चार व्यक्ति बैठे हैं। E और G के बीच केवल F बैठा है तथा E, K का निकटतम पड़ोसी नहीं है। L और E के बीच कितने व्यक्ति बैठे हैं?

- Ans 1. तीन
 2. दो
 3. चार
 4. एक

Question ID : 441009216748
 Option 1 ID : 441009851033
 Option 2 ID : 441009851032
 Option 3 ID : 441009851034
 Option 4 ID : 441009851031

Section : General Awareness

Q.1 निम्नलिखित में से किस संवैधानिक संशोधन द्वारा नौवीं अनुसूची को भारतीय संविधान में शामिल किया गया था?

- Ans 1. पहला संशोधन, 1951
 2. चवालीसवां संशोधन, 1978
 3. बयालीसवां संशोधन, 1976
 4. सातवां संशोधन, 1956

Question ID : 4410091457555
 Option 1 ID : 4410095758528
 Option 2 ID : 4410095758531
 Option 3 ID : 4410095758530
 Option 4 ID : 4410095758529

Q.2 निम्नलिखित में से किस भारतीय नेता ने सितंबर 2024 में यूनाइटेड स्टेट्स (United States) में आयोजित QUAD शिखर सम्मेलन में भाग लिया था?

- Ans 1. निर्मला सीतारमण
 2. नरेंद्र मोदी
 3. राजनाथ सिंह
 4. अमित शाह

Question ID : 441009375527
 Option 1 ID : 4410091467663
 Option 2 ID : 4410091467665
 Option 3 ID : 4410091467662
 Option 4 ID : 4410091467664

Q.3 DRDO (रक्षा अनुसंधान एवं विकास संगठन) ने दिसंबर 2025 में निम्नलिखित में से किसका परीक्षण करने के लिए उच्च गति रॉकेट-स्लेज परीक्षण (high-speed rocket-sled test) किया?

- Ans
- 1. स्पेस कैप्सूल लैंडिंग (Space capsule landing)
 - 2. मिसाइल गाइडेंस सिस्टम (Missile guidance system)
 - 3. फाइटर एयरक्राफ्ट एस्केप सिस्टम (Fighter aircraft escape system)
 - 4. सैटेलाइट इमेजिंग (Satellite imaging)

Question ID : 4410091564745
Option 1 ID : 4410096180554
Option 2 ID : 4410096180552
Option 3 ID : 4410096180553
Option 4 ID : 4410096180551

Q.4 भारत के 16वें वित्त आयोग के अध्यक्ष कौन हैं?

- Ans
- 1. अजय नारायण झा
 - 2. डॉ. सौम्या कान्ति घोष
 - 3. डॉ. अरविंद पनगढ़िया
 - 4. डॉ. मनोज पांडा

Question ID : 4410091119140
Option 1 ID : 4410094412451
Option 2 ID : 4410094412453
Option 3 ID : 4410094412450
Option 4 ID : 4410094412452

Q.5 निम्नलिखित में से किस उपग्रह को दूरसंचार और मौसम विज्ञान प्रेक्षण के लिए लॉन्च किया गया था?

- Ans
- 1. IRS
 - 2. GSAT
 - 3. INSAT
 - 4. चंद्रयान

Question ID : 441009637099
Option 1 ID : 4410092502539
Option 2 ID : 4410092502541
Option 3 ID : 4410092502540
Option 4 ID : 4410092502542

Q.6 किस विजयनगर शासक ने रायचूर को बहमनी साम्राज्य से पुनः जीत लिया था?

- Ans
- 1. हरिहर प्रथम
 - 2. कृष्णदेवराय
 - 3. बुक्का प्रथम
 - 4. देव राय द्वितीय

Question ID : 441009205164
Option 1 ID : 441009806879
Option 2 ID : 441009806877
Option 3 ID : 441009806878
Option 4 ID : 441009806880

Q.7 पूंजी बजटन निर्णय एक _____ निवेश निर्णय है।

- Ans
- 1. पाक्षिक
 - 2. एक महीने का
 - 3. मासिक
 - 4. दीर्घकालिक

Question ID : 441009867383
Option 1 ID : 4410093422563
Option 2 ID : 4410093422564
Option 3 ID : 4410093422565
Option 4 ID : 4410093422566

Q.8 चेन्नई में खेले गए FIH पुरुष जूनियर हॉकी विश्व कप 2025 का खिताब किसने जीता?

- Ans
- 1. भारत
 - 2. फ्रांस
 - 3. जर्मनी
 - 4. ऑस्ट्रेलिया

Question ID : 4410091563034
Option 1 ID : 4410096173699
Option 2 ID : 4410096173700
Option 3 ID : 4410096173701
Option 4 ID : 4410096173702

Q.9 भारत के डोमीनियन में गवर्नर बनने वाली प्रथम भारतीय महिला कौन थी?

- Ans
- 1. विजया लक्ष्मी पंडित
 - 2. सरोजिनी नायडू
 - 3. इंदिरा गांधी
 - 4. सुचेता कृपलानी

Question ID : 441009367473
 Option 1 ID : 4410091435846
 Option 2 ID : 4410091435848
 Option 3 ID : 4410091435849
 Option 4 ID : 4410091435847

Q.10 निम्नलिखित में से किसने 1907 में भारतीय राष्ट्रीय कांग्रेस के सूरत विभाजन की अध्यक्षता की थी?

- Ans
- 1. लाला लाजपत राय
 - 2. दादाभाई नौरोजी
 - 3. बाल गंगाधर तिलक
 - 4. रास बिहारी घोष

Question ID : 441009363832
 Option 1 ID : 4410091421585
 Option 2 ID : 4410091421582
 Option 3 ID : 4410091421584
 Option 4 ID : 4410091421583

Q.11 किस प्रक्रिया में सूक्ष्मजीवों द्वारा कार्बनिक पदार्थों का सरल यौगिकों में विघटन शामिल है, जिससे पोषक तत्व वापस पारिस्थितिकी तंत्र में मुक्त हो जाते हैं?

- Ans
- 1. प्रकाश संश्लेषण
 - 2. श्वसन
 - 3. अपघटन
 - 4. वाष्पोत्सर्जन

Question ID : 441009615517
 Option 1 ID : 4410092416237
 Option 2 ID : 4410092416240
 Option 3 ID : 4410092416238
 Option 4 ID : 4410092416239

Q.12 2025 पार्टनरशिप फॉर हेल्दी सिटीज़ समिट (Partnership for Healthy Cities Summit) कहाँ आयोजित किया गया?

- Ans
- 1. पेरिस, फ्रांस
 - 2. न्यू यॉर्क, USA
 - 3. जिनेवा, स्विट्जरलैंड
 - 4. टोक्यो, जापान

Question ID : 441009282317
Option 1 ID : 4410091097153
Option 2 ID : 4410091097150
Option 3 ID : 4410091097151
Option 4 ID : 4410091097152

Q.13 सितंबर 2023 में, दिए गए कलाकारों में से किसने हिंदुस्तानी गायन के लिए संगीत नाटक अकादमी अमृत पुरस्कार प्राप्त किया?

- Ans
- 1. रघुवीर मलिक
 - 2. हरिशुंद्र प्रभाकर
 - 3. धर्मेश्वर नाथ
 - 4. स्मिता शास्त्री

Question ID : 441009608199
Option 1 ID : 4410092387913
Option 2 ID : 4410092387914
Option 3 ID : 4410092387915
Option 4 ID : 4410092387916

Q.14 प्रत्येक नगरपालिका में SC और ST के लिए सीटों का आरक्षण निम्नलिखित में से किस मानदंड पर आधारित है?

- Ans
- 1. सामाजिक न्याय के आधार पर राज्य सरकार के विवेक के आधार पर
 - 2. राज्य वित्त आयोग की सिफारिशों के आधार पर
 - 3. नगरपालिका क्षेत्र की कुल जनसंख्या में SC/ST की जनसंख्या के अनुपात के आधार पर
 - 4. निर्वाचन आयोग द्वारा निर्धारित निश्चित प्रतिशत के आधार पर

Question ID : 441009672012
Option 1 ID : 4410092642140
Option 2 ID : 4410092642141
Option 3 ID : 4410092642139
Option 4 ID : 4410092642138

Q.15 कुचिपुड़ी नृत्य के गीतों की रचना मुख्य रूप से किन भाषाओं में की जाती है?

- Ans
- 1. संस्कृत और तेलुगु
 - 2. तमिल और कन्नड़
 - 3. मलयालम और मराठी
 - 4. हिंदी

Question ID : 441009241864
Option 1 ID : 441009945170
Option 2 ID : 441009945171
Option 3 ID : 441009945172
Option 4 ID : 441009945169

Q.16 निम्नलिखित में से कौन-सा, तृतीयक गतिविधियों का लक्षण नहीं है?

- Ans
- 1. प्राथमिक और द्वितीयक क्षेत्रों को सेवाएं प्रदान करना
 - 2. इसमें बैंकिंग और IT सेवाएं शामिल हैं
 - 3. इसमें परिवहन, व्यापार और संचार शामिल हैं
 - 4. पृथ्वी से सामग्रियों का प्रत्यक्ष निष्कर्षण

Question ID : 441009371823
Option 1 ID : 4410091453133
Option 2 ID : 4410091453135
Option 3 ID : 4410091453134
Option 4 ID : 4410091453132

Q.17 विलयन के संदर्भ में, निम्नलिखित में से कौन-सा गुणधर्म अणुसंख्य गुणधर्म (colligative property) नहीं है?

- Ans
- 1. विलायक का हिमांक अवनमन
 - 2. विलयन की स्थानता
 - 3. विलायक का क्वथनांक उन्नयन
 - 4. विलयन का परासरण दाब

Question ID : 441009615909
Option 1 ID : 4410092417808
Option 2 ID : 4410092417806
Option 3 ID : 4410092417807
Option 4 ID : 4410092417805

Q.18 दिसंबर 2024 में आयोजित संतोष ट्रॉफी 2024-25 निम्नलिखित में से किस राज्य ने जीती थी?

- Ans
- 1. पंजाब
 - 2. तमिलनाडु
 - 3. पश्चिम बंगाल
 - 4. केरल

Question ID : 44100913429
Option 1 ID : 44100953523
Option 2 ID : 44100953524
Option 3 ID : 44100953522
Option 4 ID : 44100953521

Q.19 FDI का पूर्ण रूप क्या है?

- Ans
- 1. Foreign domestic Investment (फॉरेन डोमेस्टिक इन्वेस्टमेंट)
 - 2. Foreign Direct Investment (फॉरेन डायरेक्ट इन्वेस्टमेंट)
 - 3. Foreign Direct Interest (फॉरेन डायरेक्ट इंटररेस्ट)
 - 4. Foreign Domestic Interest (फॉरेन डोमेस्टिक इंटररेस्ट)

Question ID : 441009628592
Option 1 ID : 4410092468522
Option 2 ID : 4410092468520
Option 3 ID : 4410092468521
Option 4 ID : 4410092468523

Q.20 निम्नलिखित में से कौन-सा, जनसंख्या संघटन का एक संकेतक है?

- Ans
- 1. कुल प्रजनन क्षमता
 - 2. लिंगानुपात
 - 3. जनसंख्या घनत्व
 - 4. जन्म दर

Question ID : 441009637390
Option 1 ID : 4410092503706
Option 2 ID : 4410092503705
Option 3 ID : 4410092503703
Option 4 ID : 4410092503704

Q.1 $\frac{\sqrt[3]{1728}}{\sqrt[4]{10000}} \times \frac{5}{36} \times 108$ को सरलीकृत कीजिए।

- Ans 1. 18
 2. 28
 3. 8
 4. 24

Question ID : 441009575755
 Option 1 ID : 4410092258140
 Option 2 ID : 4410092258141
 Option 3 ID : 4410092258142
 Option 4 ID : 4410092258143

Q.2 निम्नलिखित में से कौन-सी संख्या, 58 से विभाज्य है?

- Ans 1. 587497
 2. 584280
 3. 587134
 4. 589833

Question ID : 441009911663
 Option 1 ID : 4410093600906
 Option 2 ID : 4410093600905
 Option 3 ID : 4410093600903
 Option 4 ID : 4410093600904

Q.3 2 cm आंतरिक व्यास वाले एक वृत्ताकार पाइप से 2 मीटर प्रति सेकंड की दर से जल एक बेलनाकार टंकी में प्रवाहित होता है, जिसके आधार की त्रिज्या 80 cm है। 32 मिनट में जल के स्तर में कितनी वृद्धि होगी?

- Ans 1. 60 cm
 2. 53 cm
 3. 62 cm
 4. 54 cm

Question ID : 441009600194
 Option 1 ID : 4410092355893
 Option 2 ID : 4410092355896
 Option 3 ID : 4410092355895
 Option 4 ID : 4410092355894

Q.4 P, Q और R साझेदारी करते हैं और उनके हिस्से $\frac{1}{6} : \frac{1}{3} : \frac{1}{4}$ के अनुपात में हैं। 3 माह बाद, P अपनी पूंजी का एक-चौथाई तथा R अपनी पूंजी का आधा हिस्सा निकाल लेता है। साझेदारी के पहले दिन से एक वर्ष बाद, ₹5988 का लाभ उनके बीच विभाजित किया जाता है। लाभ में R का हिस्सा (₹ में) ज्ञात कीजिए।

- Ans
- 1. 1533
 - 2. 1563
 - 3. 1434
 - 4. 1497

Question ID : 441009898431
 Option 1 ID : 4410093547795
 Option 2 ID : 4410093547796
 Option 3 ID : 4410093547797
 Option 4 ID : 4410093547794

Q.5 एक व्यक्ति ₹60,300 का ऋण 10% वार्षिक चक्रवृद्धि ब्याज पर लेता है जबकि ब्याज वार्षिक रूप से संयोजित होता है। प्रत्येक वर्ष के अंत में, वह ₹1,700 का आंशिक भुगतान करता है। ऐसी दो किस्तों के बाद भी उस पर कितनी बकाया राशि है?

- Ans
- 1. ₹69,393
 - 2. ₹69,548
 - 3. ₹69,256
 - 4. ₹69,296

Question ID : 441009897807
 Option 1 ID : 4410093545298
 Option 2 ID : 4410093545300
 Option 3 ID : 4410093545299
 Option 4 ID : 4410093545301

Q.6 एक दुकानदार अपने सामान को 15% की हानि पर बेचने का दावा करता है, लेकिन वह दोषपूर्ण तराजू का उपयोग करके 60% का लाभ प्राप्त करता है। 1 kg वजन के लिए उसके द्वारा उपयोग किया गया वास्तविक वजन (दशमलव के एक स्थान तक पूर्णांकित) ज्ञात कीजिए।

- Ans
- 1. 533.4 gm
 - 2. 531.3 gm
 - 3. 532.2 gm
 - 4. 533.9 gm

Question ID : 441009561347
 Option 1 ID : 4410092200656
 Option 2 ID : 4410092200655
 Option 3 ID : 4410092200657
 Option 4 ID : 4410092200658

Q.7 एक व्यक्ति स्थान P से स्थान Q तक 28 km प्रति घंटे की चाल से जाता है और 36 km प्रति घंटे की चाल से वापस आता है। संपूर्ण यात्रा के लिए उस व्यक्ति की औसत चाल ज्ञात कीजिए।

- Ans
- 1. 33.2 km/hour
 - 2. 31.5 km/hour
 - 3. 30.8 km/hour
 - 4. 29.7 km/hour

Question ID : 4410096058
 Option 1 ID : 44100924012
 Option 2 ID : 44100924011
 Option 3 ID : 44100924010
 Option 4 ID : 44100924009

Q.8 यदि P किसी कार्य को 40 दिनों में, Q उसी कार्य को 80 दिनों में और R उसी कार्य को 120 दिनों में पूरा कर सकता है, तो P, Q और R मिलकर उसी कार्य को कितने दिनों में पूरा कर सकते हैं?

- Ans
- 1. $22\frac{9}{11}$
 - 2. $20\frac{9}{11}$
 - 3. $24\frac{9}{11}$
 - 4. $21\frac{9}{11}$

Question ID : 44100947198
 Option 1 ID : 441009187891
 Option 2 ID : 441009187889
 Option 3 ID : 441009187892
 Option 4 ID : 441009187890

Q.9 एक व्यापारी ₹690 अंकित मूल्य वाली वस्तु पर 10% की छूट देने के बाद, 8% का लाभ अर्जित करता है। यदि कोई छूट न दी जाती, तो लाभ प्रतिशत कितना होता?

- Ans
- 1. 19%
 - 2. 18%
 - 3. 20%
 - 4. 21%

Question ID : 441009208809
 Option 1 ID : 441009820520
 Option 2 ID : 441009820519
 Option 3 ID : 441009820521
 Option 4 ID : 441009820522

Q.10 10 संख्याओं का योग 648 है। उनका औसत ज्ञात कीजिए।

- Ans
- 1. 62.8
 - 2. 65.8
 - 3. 64.8
 - 4. 63.8

Question ID : 441009581972
Option 1 ID : 4410092283017
Option 2 ID : 4410092283016
Option 3 ID : 4410092283014
Option 4 ID : 4410092283015

Q.11 एक परीक्षा में, पूर्णांक 90 में से B को 54 अंक प्राप्त हुए, जबकि A को 75 अंक प्राप्त हुए। A के अंक, B के अंकों के लगभग कितने प्रतिशत थे?

- Ans
- 1. 83.33%
 - 2. 72%
 - 3. 138.89%
 - 4. 90%

Question ID : 441009856960
Option 1 ID : 4410093380815
Option 2 ID : 4410093380813
Option 3 ID : 4410093380812
Option 4 ID : 4410093380814

Q.12 एक दुकानदार ने ₹1,200 में एक वस्तु खरीदी। उसे 20% लाभ अर्जित करने के लिए, उस वस्तु को किस कीमत (₹ में) पर बेचना चाहिए?

- Ans
- 1. 1,440
 - 2. 960
 - 3. 1,428
 - 4. 1,452

Question ID : 441009191048
Option 1 ID : 441009752992
Option 2 ID : 441009752993
Option 3 ID : 441009752995
Option 4 ID : 441009752994

Q.13 किस राशि (₹ में) पर 2 वर्षों में 16% वार्षिक ब्याज दर से साधारण ब्याज के रूप में ₹1680 प्राप्त होगा?

- Ans
- 1. 537.6
 - 2. 10500
 - 3. 5250
 - 4. 2625

Question ID : 441009852628
Option 1 ID : 4410093363487
Option 2 ID : 4410093363486
Option 3 ID : 4410093363484
Option 4 ID : 4410093363485

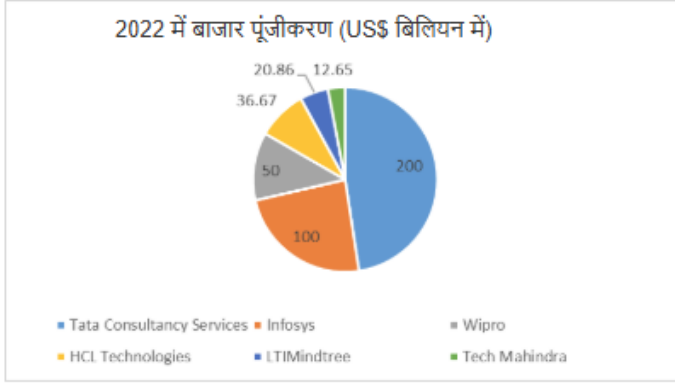
Q.14 एक समचतुर्भुज का क्षेत्रफल ज्ञात कीजिए जिसके विकर्ण 26 cm और 48 cm हैं।

- Ans
- 1. 312 cm²
 - 2. 600 cm²
 - 3. 416 cm²
 - 4. 624 cm²

Question ID : 441009125598
Option 1 ID : 441009499238
Option 2 ID : 441009499237
Option 3 ID : 441009499236
Option 4 ID : 441009499235



Q.15 निम्नलिखित पाई चार्ट में वर्ष 2022 में भारत में छह सबसे बड़ी भारतीय IT कंपनियों के बाजार पूंजीकरण को दर्शाया गया है।



संदर्भ:-

Tata Consultancy Services - टाटा कंसल्टेंसी सर्विसेज

Infosys - इंफोसिस

HCL Technologies - एचसीएल टेक्नोलॉजीज

Wipro - विप्रो

Tech Mahindra - टेक महिंद्रा

LTIMindtree - एलटीआईमाइंडट्री

इन भारतीय IT कंपनियों के औसत बाजार पूंजीकरण की गणना कीजिए।

- Ans
- ✓ 1. US\$70.03 बिलियन
 - ✗ 2. US\$36.67 बिलियन
 - ✗ 3. US\$420.18 बिलियन
 - ✗ 4. US\$84.04 बिलियन

Question ID : 441009364125
Option 1 ID : 4410091422753
Option 2 ID : 4410091422752
Option 3 ID : 4410091422751
Option 4 ID : 4410091422750

Q.16 1204 सैनिकों के गैरिसन के पास 23 दिनों का राशन है। यदि गैरिसन में सैनिकों की संख्या बढ़ाकर 1978 कर दी जाए, तो राशन कितने समय (दिनों में) तक चलेगा?

- Ans
- ✗ 1. 13
 - ✗ 2. 15
 - ✓ 3. 14
 - ✗ 4. 16

Question ID : 441009522872
Option 1 ID : 4410092046908
Option 2 ID : 4410092046909
Option 3 ID : 4410092046907
Option 4 ID : 4410092046910

Q.17 यदि $9.6 : 16.8 :: 18 : x$ है, तो x का मान ज्ञात कीजिए।

- Ans
- 1. 20.4
 - 2. 24.8
 - 3. 25.5
 - 4. 31.5

Question ID : 441009194365
Option 1 ID : 441009765410
Option 2 ID : 441009765409
Option 3 ID : 441009765408
Option 4 ID : 441009765407

Q.18 12.6 cm व्यास वाले गोले का आयतन (cm^3) ज्ञात कीजिए। (उत्तर को दशमलव के दो स्थानों तक पूर्णांकित कीजिए)

$$\left(\pi = \frac{22}{7} \text{ लीजिए}\right)$$

- Ans
- 1. 1197.81
 - 2. 1177.81
 - 3. 1047.82
 - 4. 1027.82

Question ID : 441009622257
Option 1 ID : 4410092443161
Option 2 ID : 4410092443163
Option 3 ID : 4410092443160
Option 4 ID : 4410092443162

Q.19 एक स्वास्थ्य क्लब में 43% सदस्य महिलाएं और 57% सदस्य पुरुष हैं। यदि पुरुषों की औसत आयु 75 वर्ष और महिलाओं की औसत आयु 35 वर्ष है, तो सभी सदस्यों की औसत आयु (वर्षों में) कितनी होगी?

- Ans
- 1. 48.8
 - 2. 57.8
 - 3. 65.6
 - 4. 59.9

Question ID : 441009539451
Option 1 ID : 4410092113201
Option 2 ID : 4410092113200
Option 3 ID : 4410092113203
Option 4 ID : 4410092113202

Q.20 दो रेलगाड़ियाँ, X और Y, समानांतर पटरियों पर एक ही दिशा में चल रही हैं। रेलगाड़ी X की लंबाई 240 m है, जबकि रेलगाड़ी Y की लंबाई 360 m है। रेलगाड़ी X, रेलगाड़ी Y को 36 सेकंड में पूरी तरह से पार कर लेती है। यदि रेलगाड़ी Y, 54 km/h की चाल से चल रही है और तत्पश्चात रेलगाड़ी X, 672 m लंबाई वाले एक प्लेटफॉर्म को t सेकंड में पार करती है, तो t का मान ज्ञात कीजिए।

- Ans
- 1. 27.8
 - 2. 28.8
 - 3. 26.6
 - 4. 29.9

Question ID : 4410091622263
Option 1 ID : 4410096407841
Option 2 ID : 4410096407840
Option 3 ID : 4410096407843
Option 4 ID : 4410096407842

Section : English Language and Comprehension

Q.1 Select the option that is the most appropriate antonym of the underlined word in the given sentence.

The referee's decision was seen as a capricious move by the players.

- Ans
- 1. secretive
 - 2. predictable
 - 3. overlooked
 - 4. impulsive

Question ID : 4410091639698
Option 1 ID : 4410096476124
Option 2 ID : 4410096476122
Option 3 ID : 4410096476123
Option 4 ID : 4410096476125

Q.2 In the given question, a sentence is divided into four segments. Rearrange them to form a coherent sentence.

- (A) when the critic reevaluated the novel through feminist theory
- (B) character motivations shifted into sharper focus
- (C) exposing systemic patriarchal structures
- (D) embedded throughout the narrative

Ans 1. ACBD
 2. BDAC
 3. ABCD
 4. BCAD

Question ID : 4410091518715
Option 1 ID : 4410095998140
Option 2 ID : 4410095998141
Option 3 ID : 4410095998138
Option 4 ID : 4410095998139

Q.3 Out of the four alternatives, choose the one that can be used as a substitute for the following word segment.

A person who secretly listens to and records other people's private conversations

Ans 1. Spy
 2. Detective
 3. Informer
 4. Eavesdropper

Question ID : 4410091314047
Option 1 ID : 4410095187883
Option 2 ID : 4410095187885
Option 3 ID : 4410095187884
Option 4 ID : 4410095187886

Q.4 Identify the antonym of the underlined word in the sentence.

Despite his optimistic outlook, the project failed due to lack of resources.

Ans 1. cheerful
 2. hopeful
 3. ambitious
 4. pessimistic

Question ID : 4410091308806
Option 1 ID : 4410095166862
Option 2 ID : 4410095166863
Option 3 ID : 4410095166865
Option 4 ID : 4410095166864

Q.5 Select the word that has the same meaning as the group of words given below.

The practice of excessive and obsessive concern with one's own health, often without medical cause

- Ans 1. Hypochondria
 2. Malnutrition
 3. Exhaustion
 4. Insomnia

Question ID : 4410091639628
Option 1 ID : 4410096475973
Option 2 ID : 4410096475974
Option 3 ID : 4410096475975
Option 4 ID : 4410096475972

Q.6 Choose the option that contains the misspelt word.

- Ans 1. Accessible
 2. Credible
 3. Inevitable
 4. Dispensible

Question ID : 4410091526469
Option 1 ID : 4410096028987
Option 2 ID : 4410096028989
Option 3 ID : 4410096028986
Option 4 ID : 4410096028988

Q.7 Select the wrongly spelt word.

- Ans 1. Plenitude
 2. Unintelligibel
 3. Inhospitable
 4. Industrious

Question ID : 441009176641
Option 1 ID : 441009698476
Option 2 ID : 441009698474
Option 3 ID : 441009698473
Option 4 ID : 441009698475

Q.8 Choose the correct proverb to replace the underlined segment.

Her artwork received mixed reactions, proving once again that everyone has a different idea of what is beautiful.

- Ans
- 1. every rose has its thorn
 - 2. a picture is worth a thousand words
 - 3. beauty is in the eye of the beholder
 - 4. fortune favours the bold

Question ID : 4410091555216
Option 1 ID : 4410096143466
Option 2 ID : 4410096143463
Option 3 ID : 4410096143464
Option 4 ID : 4410096143465

Q.9 Select the most appropriate option to fill in the blank.

Embracing it will empower individuals to navigate the digital world _____ and make the most of its endless possibilities.

- Ans
- 1. especially
 - 2. strictly
 - 3. confidently
 - 4. silently

Question ID : 4410091524573
Option 1 ID : 4410096021518
Option 2 ID : 4410096021515
Option 3 ID : 4410096021516
Option 4 ID : 4410096021517

Q.10 Select the most appropriate proverb that can substitute the underlined segment in the given sentence.

The villagers, afraid to question the bishop's decision, blamed Father Peter instead, choosing to punish someone harmless rather than confront the real power.

- Ans
- 1. kill two birds with one stone
 - 2. let sleeping dogs lie
 - 3. the pot calling the kettle black
 - 4. beat the dog before the lion

Question ID : 441009151165
Option 1 ID : 441009599873
Option 2 ID : 441009599874
Option 3 ID : 441009599876
Option 4 ID : 441009599875

Q.11 In the given question, a statement is divided into different segments. The first segment (S1) is fixed, rearrange the other segments to form a coherent statement.

S1. Horse racing is an ancient equestrian sport

- A. to determine which is fastest
- B. in which two or more horses
- C. compete over a set distance
- D. ridden by jockeys or driven without riders

- Ans
- 1. A-C-B-D
 - 2. C-A-D-B
 - 3. B-D-C-A
 - 4. B-C-D-A

Question ID : 4410091524511
Option 1 ID : 4410096021282
Option 2 ID : 4410096021281
Option 3 ID : 4410096021283
Option 4 ID : 4410096021280

Q.12 Select the most appropriate article to fill in the blank. If no article is needed, select 'No article required'.

_____ following example, taken from a novel, illustrates these terms.

- Ans
- 1. An
 - 2. No article required
 - 3. The
 - 4. A

Question ID : 441009498236
Option 1 ID : 4410091948159
Option 2 ID : 4410091948156
Option 3 ID : 4410091948157
Option 4 ID : 4410091948158

Q.13 Select the most appropriate adverb to fill in the blank.

The teacher spoke _____ to ensure all students understood the lesson.

- Ans
- 1. clearly
 - 2. angrily
 - 3. vaguely
 - 4. unclearly

Question ID : 441009352037
Option 1 ID : 4410091374498
Option 2 ID : 4410091374499
Option 3 ID : 4410091374500
Option 4 ID : 4410091374501

Q.14 Fill in the blanks with the correct option.

___ moon was shining brightly in ___ night sky.

- Ans 1. the, the
 2. a, a
 3. the, a
 4. a, the

Question ID : 4410091126877
Option 1 ID : 4410094443063
Option 2 ID : 4410094443066
Option 3 ID : 4410094443065
Option 4 ID : 4410094443064

Q.15 Choose the most appropriate option to fill in the given blanks.

She can play the guitar ___ the piano, ___ she cannot sing.

- Ans 1. and, but
 2. and, so
 3. or, and
 4. but, or

Question ID : 4410091126952
Option 1 ID : 4410094443360
Option 2 ID : 4410094443362
Option 3 ID : 4410094443361
Option 4 ID : 4410094443363

Comprehension:

Read the given passage carefully and answer the questions that follow.

The desert is often imagined as a barren wasteland, yet its silence conceals a fragile network of life. Adaptation is the law here: cacti store water in swollen stems, nocturnal animals emerge under the cover of darkness, and nomadic tribes shape their survival around shifting dunes. Paradoxically, the desert is both a place of scarcity and abundance; scarcity in visible resources, abundance in resilience and ingenuity. Modern societies, however, often fail to read this paradox. Deserts are dismissed as "empty lands," useful only for extraction of minerals or expansion of settlements. Such attitudes overlook the desert's ecological role: regulating temperature, preserving biodiversity, and even influencing monsoon cycles. Moreover, deserts hold cultural significance, inspiring poetry, spirituality, and philosophy through their stark solitude. As climate change accelerates desertification, the lesson becomes urgent: the desert is not a void but a teacher. To dismiss it as wasteland is to misunderstand its enduring wisdom about balance, survival, and humility before nature.

SubQuestion No : 16

Q.16 Which of the following is the most suitable title for the passage?

- Ans** 1. The Desert as Teacher of Resilience and Balance
2. Expansion of Settlements in Desert Regions
3. The Desert as a Barren and Uninhabitable Land
4. Mineral Extraction and Industrial Uses of Deserts

Question ID : 4410091318718
Option 1 ID : 4410095206430
Option 2 ID : 4410095206431
Option 3 ID : 4410095206433
Option 4 ID : 4410095206432



Comprehension:

Read the given passage carefully and answer the questions that follow.

The desert is often imagined as a barren wasteland, yet its silence conceals a fragile network of life. Adaptation is the law here: cacti store water in swollen stems, nocturnal animals emerge under the cover of darkness, and nomadic tribes shape their survival around shifting dunes. Paradoxically, the desert is both a place of scarcity and abundance; scarcity in visible resources, abundance in resilience and ingenuity. Modern societies, however, often fail to read this paradox. Deserts are dismissed as "empty lands," useful only for extraction of minerals or expansion of settlements. Such attitudes overlook the desert's ecological role: regulating temperature, preserving biodiversity, and even influencing monsoon cycles. Moreover, deserts hold cultural significance, inspiring poetry, spirituality, and philosophy through their stark solitude. As climate change accelerates desertification, the lesson becomes urgent: the desert is not a void but a teacher. To dismiss it as wasteland is to misunderstand its enduring wisdom about balance, survival, and humility before nature.

SubQuestion No : 17

Q.17 What is the central theme of the passage?

- Ans**
- 1. Deserts embody resilience and ecological value, often overlooked by modern societies.
 - 2. Deserts are merely empty lands suitable for mining and industrialization.
 - 3. Desert life depends exclusively on nocturnal animals and shifting dunes.
 - 4. Deserts are valuable only as sites for cultural inspiration and poetry.

Question ID : 4410091318719
Option 1 ID : 4410095206434
Option 2 ID : 4410095206435
Option 3 ID : 4410095206437
Option 4 ID : 4410095206436



Comprehension:

Read the given passage carefully and answer the questions that follow.

The desert is often imagined as a barren wasteland, yet its silence conceals a fragile network of life. Adaptation is the law here: cacti store water in swollen stems, nocturnal animals emerge under the cover of darkness, and nomadic tribes shape their survival around shifting dunes. Paradoxically, the desert is both a place of scarcity and abundance; scarcity in visible resources, abundance in resilience and ingenuity. Modern societies, however, often fail to read this paradox. Deserts are dismissed as "empty lands," useful only for extraction of minerals or expansion of settlements. Such attitudes overlook the desert's ecological role: regulating temperature, preserving biodiversity, and even influencing monsoon cycles. Moreover, deserts hold cultural significance, inspiring poetry, spirituality, and philosophy through their stark solitude. As climate change accelerates desertification, the lesson becomes urgent: the desert is not a void but a teacher. To dismiss it as wasteland is to misunderstand its enduring wisdom about balance, survival, and humility before nature.

SubQuestion No : 18

Q.18 Which fact is directly given in the passage?

- Ans**
- 1. Nomadic tribes have abandoned the desert due to lack of resources.
 - 2. Nocturnal animals are unable to survive desert environments.
 - 3. Deserts do not influence rainfall or climatic cycles.
 - 4. Cacti store water in swollen stems to survive desert conditions.

Question ID : 4410091318720
Option 1 ID : 4410095206441
Option 2 ID : 4410095206440
Option 3 ID : 4410095206439
Option 4 ID : 4410095206438



Comprehension:

Read the given passage carefully and answer the questions that follow.

The desert is often imagined as a barren wasteland, yet its silence conceals a fragile network of life. Adaptation is the law here: cacti store water in swollen stems, nocturnal animals emerge under the cover of darkness, and nomadic tribes shape their survival around shifting dunes. Paradoxically, the desert is both a place of scarcity and abundance; scarcity in visible resources, abundance in resilience and ingenuity. Modern societies, however, often fail to read this paradox. Deserts are dismissed as "empty lands," useful only for extraction of minerals or expansion of settlements. Such attitudes overlook the desert's ecological role: regulating temperature, preserving biodiversity, and even influencing monsoon cycles. Moreover, deserts hold cultural significance, inspiring poetry, spirituality, and philosophy through their stark solitude. As climate change accelerates desertification, the lesson becomes urgent: the desert is not a void but a teacher. To dismiss it as wasteland is to misunderstand its enduring wisdom about balance, survival, and humility before nature.

SubQuestion No : 19

Q.19 Which inference can be drawn from the passage?

- Ans**
- 1. Ecological roles of deserts are irrelevant to global climate systems.
 - 2. Climate change has intensified the process of desertification worldwide.
 - 3. Modern societies rely on deserts mainly for cultural inspiration.
 - 4. Deserts are universally dismissed as useless and uninhabitable.

Question ID : 4410091318721
Option 1 ID : 4410095206445
Option 2 ID : 4410095206442
Option 3 ID : 4410095206444
Option 4 ID : 4410095206443



Comprehension:

Read the given passage carefully and answer the questions that follow.

The desert is often imagined as a barren wasteland, yet its silence conceals a fragile network of life. Adaptation is the law here: cacti store water in swollen stems, nocturnal animals emerge under the cover of darkness, and nomadic tribes shape their survival around shifting dunes. Paradoxically, the desert is both a place of scarcity and abundance; scarcity in visible resources, abundance in resilience and ingenuity. Modern societies, however, often fail to read this paradox. Deserts are dismissed as "empty lands," useful only for extraction of minerals or expansion of settlements. Such attitudes overlook the desert's ecological role: regulating temperature, preserving biodiversity, and even influencing monsoon cycles. Moreover, deserts hold cultural significance, inspiring poetry, spirituality, and philosophy through their stark solitude. As climate change accelerates desertification, the lesson becomes urgent: the desert is not a void but a teacher. To dismiss it as wasteland is to misunderstand its enduring wisdom about balance, survival, and humility before nature.

SubQuestion No : 20

Q.20 The tone of the passage can best be described as:

- Ans 1. Aggressive and confrontational
 2. Reflective and cautionary
 3. Sarcastic and humorous
 4. Detached and indifferent

Question ID : 4410091318722
Option 1 ID : 4410095206448
Option 2 ID : 4410095206446
Option 3 ID : 4410095206447
Option 4 ID : 4410095206449

Section : Hindi Language and Comprehension

Q.1 दिए गए वाक्य के रिक्त स्थान में क्रिया शब्द का प्रयोग करें -
'सीमा पुस्तक रही है।'

- Ans 1. पढ़ना
 2. पढ़ता
 3. पढ़ो
 4. पढ़

Question ID : 4410091528103
Option 1 ID : 4410096035605
Option 2 ID : 4410096035606
Option 3 ID : 4410096035607
Option 4 ID : 4410096035608

Q.2 निम्नांकित विकल्पों में से उचित विशेषण का चयन करके वाक्य पूर्ण करें-
गंगा नदी हिमालय से निकलकर मैदानों मेंदूरी तय करती है।

- Ans
- 1. बड़ी
 - 2. छोटी
 - 3. लम्बी
 - 4. चौड़ी

Question ID : 4410091256241
Option 1 ID : 4410094957861
Option 2 ID : 4410094957864
Option 3 ID : 4410094957863
Option 4 ID : 4410094957862

Q.3 'मन से तो चाहना पर ऊपर से इन्कार करना' अर्थ के लिए सही लोकोक्ति क्या है?

- Ans
- 1. खुशामद से ही आमद है
 - 2. ओस चाटे प्यास नहीं बुझती
 - 3. मन भावे मूँड़ हिलावे
 - 4. कंगाली में आटा गीला

Question ID : 4410091626250
Option 1 ID : 4410096423391
Option 2 ID : 4410096423389
Option 3 ID : 4410096423392
Option 4 ID : 4410096423390

Q.4 निम्नलिखित में से सही क्रम वाले वाक्य का चयन कीजिए-

- Ans
- 1. दर्शन ग्रंथों की अत्यन्त प्राचीन परम्परा रही है हिन्दू धर्म में।
 - 2. हिन्दू धर्म में दर्शन ग्रंथों की प्राचीन परम्परा रही है अत्यन्त ।
 - 3. हिन्दू धर्म में अत्यन्त प्राचीन परम्परा रही है दर्शन ग्रंथों की।
 - 4. हिन्दू धर्म में दर्शन ग्रंथों की अत्यन्त प्राचीन परम्परा रही है ।

Question ID : 4410091546241
Option 1 ID : 4410096107821
Option 2 ID : 4410096107822
Option 3 ID : 4410096107819
Option 4 ID : 4410096107820

Q.5 'पेट में दाढ़ी होना' मुहावरे का सही अर्थ क्या है ?

- Ans
- 1. कार्य में अनुभवहीन होना
 - 2. शारीरिक रूप से कमजोर होना
 - 3. छोटी उम्र में ही बहुत अधिक बुद्धिमान होना
 - 4. रोगग्रस्त होना

Question ID : 4410091547188
Option 1 ID : 4410096111624
Option 2 ID : 4410096111622
Option 3 ID : 4410096111621
Option 4 ID : 4410096111623

Q.6 निम्नांकित विकल्पों में से उचित क्रिया का चयन करके वाक्य पूर्ण करें-
अध्यापक ने गणित का सवाल बच्चों को

- Ans
- 1. समझाए
 - 2. समझाया
 - 3. सुझाया
 - 4. बताये

Question ID : 4410091254760
Option 1 ID : 4410094952023
Option 2 ID : 4410094952022
Option 3 ID : 4410094952024
Option 4 ID : 4410094952025

Q.7 दिए गए वाक्यों में से वर्तनी की दृष्टि से शुद्ध वाक्य का चयन कीजिए।

- Ans
- 1. उसकी माँग में सिन्दूर नहीं है।
 - 2. उसकी माँग में सिन्दुर नहीं है।
 - 3. उसकि माँग में सिन्दूर नहीं है।
 - 4. उसकी माँग में सिन्दूर नहीं है।

Question ID : 4410091626475
Option 1 ID : 4410096424273
Option 2 ID : 4410096424274
Option 3 ID : 4410096424275
Option 4 ID : 4410096424272

Q.8 वाक्य में रेखांकित शब्द का सही पर्यायवाची चुनिए।
'भारत की आजादी के लिए असंख्य लोगों ने बलिदान दिया है।'

- Ans
- 1. बेचारा
 - 2. अधिकार
 - 3. जानकारी
 - 4. कुर्बानी

Question ID : 4410091526854
Option 1 ID : 4410096030528
Option 2 ID : 4410096030527
Option 3 ID : 4410096030529
Option 4 ID : 4410096030526

Q.9 दिए गए वाक्य के रिक्त स्थान में कर्म कारक चिह्न का प्रयोग करें -
'माँ ने बच्चे दूध पिलाया।'

- Ans
- 1. को
 - 2. में
 - 3. पर
 - 4. से

Question ID : 4410091528014
Option 1 ID : 4410096035255
Option 2 ID : 4410096035254
Option 3 ID : 4410096035253
Option 4 ID : 4410096035256

Q.10 'वह समाज जिसके सदस्यों की संख्या औरों के मुकाबले में कम हो' वाक्यांश के लिए सार्थक शब्द होगा -

- Ans
- 1. अल्पप्राण
 - 2. अल्पसंख्यक
 - 3. अल्पमत
 - 4. अल्पवयस्क

Question ID : 4410091297356
Option 1 ID : 4410095121418
Option 2 ID : 4410095121416
Option 3 ID : 4410095121417
Option 4 ID : 4410095121415

Q.11 दिये गये वाक्य के किस भाग में त्रुटि है?

अनुशासित दिनचर्या का पालन दीर्घकालीन सफलता के लिए आवश्यक है।

- Ans
- 1. अनुशासित
 - 2. दीर्घकालीन
 - 3. दिनचर्या का पालन
 - 4. सफलता के लिए आवश्यक है।

Question ID : 4410091547225
Option 1 ID : 4410096111771
Option 2 ID : 4410096111773
Option 3 ID : 4410096111772
Option 4 ID : 4410096111774

Q.12 'ऊँची दुकान फीका पकवान' लोकोक्ति का सही अर्थ क्या होगा?

- Ans
- 1. बाहरी दिखावा अधिक, गुणकर्म कम
 - 2. विपरीत कार्य करना
 - 3. विपरीत वस्तुओं का मेल
 - 4. दिखावटी रोना

Question ID : 4410091624800
Option 1 ID : 4410096417727
Option 2 ID : 4410096417730
Option 3 ID : 4410096417728
Option 4 ID : 4410096417729

Q.13 निम्न में से 'आम के आम गुठलियों के दाम' लोकोक्ति का सही अर्थ कौन-सा है ?

- Ans
- 1. हर प्रकार से लाभ
 - 2. लाभ की वस्तु से दूर रहना
 - 3. बेमेल व्यक्तियों का साथ होना
 - 4. ओछा व्यक्ति बहुत इतराता है

Question ID : 4410091626404
Option 1 ID : 4410096423997
Option 2 ID : 4410096423998
Option 3 ID : 4410096423996
Option 4 ID : 4410096423999

Q.14 उपयुक्त 'विशेषण' का चयन कर रिक्त स्थान की पूर्ति कीजिए।
'कविता काउज्ज्वल है।'

- Ans
- 1. मौसमी
 - 2. प्राचीन
 - 3. ताजा
 - 4. भविष्य

Question ID : 4410091524899
Option 1 ID : 4410096022801
Option 2 ID : 4410096022800
Option 3 ID : 4410096022802
Option 4 ID : 4410096022799

Q.15 'आदर से स्वागत करना' अर्थ के लिए सही मुहावरा क्या है?

- Ans
- 1. पलक पाँवड़ें बिछाना
 - 2. तेली का बैल होना
 - 3. दाढ़ी पेट में होना
 - 4. दूर की कौड़ी लाना

Question ID : 4410091626104
Option 1 ID : 4410096422823
Option 2 ID : 4410096422822
Option 3 ID : 4410096422824
Option 4 ID : 4410096422821



Comprehension:

निम्नलिखित गद्यांश को ध्यानपूर्वक पढ़कर पूछे गये प्रश्नों के सही उत्तर दीजिए।
मानसिक स्वास्थ्य आधुनिक मानव जीवन का मूल आधार है जो भावनात्मक स्थिरता तथा सामाजिक सद्भाव सुनिश्चित करता है। यह केवल मानसिक रोगों की अनुपस्थिति नहीं अपितु सकारात्मक मनोदशा, आत्मविश्वास तथा तनाव प्रबंधन की क्षमता है। तेजी से बदलते डिजिटल युग में सोशल मीडिया दबाव, शैक्षणिक प्रतिस्पर्धा तथा कार्यभार ने युवाओं में अवसाद तथा चिंता विकराल रूप धारण कर लिया है। मानसिक स्वास्थ्य संरक्षण हेतु नियमित ध्यान, प्राणायाम तथा प्रकृति चिंतन अत्यंत लाभकारी हैं। शैक्षणिक संस्थानों में भावनात्मक बुद्धिमत्ता को पाठ्यक्रम में स्थान मिलना चाहिए। परिवारों में खुली संवाद प्रक्रिया विकसित करनी होगी ताकि किशोर अपनी भावनाओं को व्यक्त कर सकें। कार्यालयों में मानसिक स्वास्थ्य दिवस तथा परामर्श केंद्र स्थापित किए जाने चाहिए। स्वामी विवेकानंद ने कहा था कि "उठो, जागो और तब तक न रुको जब तक लक्ष्य प्राप्त न हो" - यह मानसिक दृढ़ता का प्रतीक है। समाज स्तर पर मानसिक रोगों संबंधी कलंक मिटाना अनिवार्य है। ग्रामीण क्षेत्रों में मोबाइल मनोचिकित्सा इकाइयों का संचालन आवश्यक है। युवाओं को शौक पूर्ण तथा खेलकूद के माध्यम से तनाव मुक्ति सिखानी चाहिए। अंततः मानसिक स्वास्थ्य ही सच्ची प्रगति का सूचक है जो व्यक्ति को सृजनशील बनाता है तथा राष्ट्र को समृद्ध बनाता है।

SubQuestion No : 16**Q.16 मानसिक स्वास्थ्य को गद्यांश में क्या कहा गया है?**

- Ans
- 1. शारीरिक स्वास्थ्य का पर्याय
 - 2. आर्थिक समृद्धि का स्रोत
 - 3. आधुनिक मानव जीवन का मूल आधार
 - 4. सामाजिक कलंक का कारण

Question ID : 4410091626967

Option 1 ID : 4410096426184

Option 2 ID : 4410096426185

Option 3 ID : 4410096426183

Option 4 ID : 4410096426182

Comprehension:

निम्नलिखित गद्यांश को ध्यानपूर्वक पढ़कर पूछे गये प्रश्नों के सही उत्तर दीजिए।
मानसिक स्वास्थ्य आधुनिक मानव जीवन का मूल आधार है जो भावनात्मक स्थिरता तथा सामाजिक सद्भाव सुनिश्चित करता है। यह केवल मानसिक रोगों की अनुपस्थिति नहीं अपितु सकारात्मक मनोदशा, आत्मविश्वास तथा तनाव प्रबंधन की क्षमता है। तेजी से बदलते डिजिटल युग में सोशल मीडिया दबाव, शैक्षणिक प्रतिस्पर्धा तथा कार्यभार ने युवाओं में अवसाद तथा चिंता विकराल रूप धारण कर लिया है। मानसिक स्वास्थ्य संरक्षण हेतु नियमित ध्यान, प्राणायाम तथा प्रकृति चिंतन अत्यंत लाभकारी हैं। शैक्षणिक संस्थानों में भावनात्मक बुद्धिमत्ता को पाठ्यक्रम में स्थान मिलना चाहिए। परिवारों में खुली संवाद प्रक्रिया विकसित करनी होगी ताकि किशोर अपनी भावनाओं को व्यक्त कर सकें। कार्यालयों में मानसिक स्वास्थ्य दिवस तथा परामर्श केंद्र स्थापित किए जाने चाहिए। स्वामी विवेकानंद ने कहा था कि "उठो, जागो और तब तक न रुको जब तक लक्ष्य प्राप्त न हो" - यह मानसिक दृढ़ता का प्रतीक है। समाज स्तर पर मानसिक रोगों संबंधी कलंक मिटाना अनिवार्य है। ग्रामीण क्षेत्रों में मोबाइल मनोचिकित्सा इकाइयों का संचालन आवश्यक है। युवाओं को शौक पूर्ण तथा खेलकूद के माध्यम से तनाव मुक्ति सिखानी चाहिए। अंततः मानसिक स्वास्थ्य ही सच्ची प्रगति का सूचक है जो व्यक्ति को सृजनशील बनाता है तथा राष्ट्र को समृद्ध बनाता है।

SubQuestion No : 17**Q.17 गद्यांश के अनुसार खुली संवाद प्रक्रिया से किशोर क्या लाभ प्राप्त करेंगे?**

- Ans
- 1. चिंता और समस्या बढ़ा सकेंगे
 - 2. अवसाद छिपा सकेंगे
 - 3. अपनी भावनाओं को व्यक्त कर सकेंगे
 - 4. अपनी भावनाओं को पूर्णतः दबा सकेंगे

Question ID : 4410091626968

Option 1 ID : 4410096426188

Option 2 ID : 4410096426187

Option 3 ID : 4410096426189

Option 4 ID : 4410096426186

Comprehension:

निम्नलिखित गद्यांश को ध्यानपूर्वक पढ़कर पूछे गये प्रश्नों के सही उत्तर दीजिए।
मानसिक स्वास्थ्य आधुनिक मानव जीवन का मूल आधार है जो भावनात्मक स्थिरता तथा सामाजिक सद्भाव सुनिश्चित करता है। यह केवल मानसिक रोगों की अनुपस्थिति नहीं अपितु सकारात्मक मनोदशा, आत्मविश्वास तथा तनाव प्रबंधन की क्षमता है। तेजी से बदलते डिजिटल युग में सोशल मीडिया दबाव, शैक्षणिक प्रतिस्पर्धा तथा कार्यभार ने युवाओं में अवसाद तथा चिंता विकराल रूप धारण कर लिया है। मानसिक स्वास्थ्य संरक्षण हेतु नियमित ध्यान, प्राणायाम तथा प्रकृति चिंतन अत्यंत लाभकारी हैं। शैक्षणिक संस्थानों में भावनात्मक बुद्धिमत्ता को पाठ्यक्रम में स्थान मिलना चाहिए। परिवारों में खुली संवाद प्रक्रिया विकसित करनी होगी ताकि किशोर अपनी भावनाओं को व्यक्त कर सकें। कार्यालयों में मानसिक स्वास्थ्य दिवस तथा परामर्श केंद्र स्थापित किए जाने चाहिए। स्वामी विवेकानंद ने कहा था कि "उठो, जागो और तब तक न रुको जब तक लक्ष्य प्राप्त न हो" - यह मानसिक दृढ़ता का प्रतीक है। समाज स्तर पर मानसिक रोगों संबंधी कलंक मिटाना अनिवार्य है। ग्रामीण क्षेत्रों में मोबाइल मनोचिकित्सा इकाइयों का संचालन आवश्यक है। युवाओं को शौक पूर्ण तथा खेलकूद के माध्यम से तनाव मुक्ति सिखानी चाहिए। अंततः मानसिक स्वास्थ्य ही सच्ची प्रगति का सूचक है जो व्यक्ति को सृजनशील बनाता है तथा राष्ट्र को समृद्ध बनाता है।

SubQuestion No : 18**Q.18 डिजिटल युग में युवाओं में क्या विकराल रूप धारण कर लिया है?**

- Ans
- 1. सृजनशीलता
 - 2. आनंद
 - 3. अवसाद तथा चिंता
 - 4. आत्मविश्वास

Question ID : 4410091626969

Option 1 ID : 4410096426193

Option 2 ID : 4410096426190

Option 3 ID : 4410096426191

Option 4 ID : 4410096426192

Comprehension:

निम्नलिखित गद्यांश को ध्यानपूर्वक पढ़कर पूछे गये प्रश्नों के सही उत्तर दीजिए।
मानसिक स्वास्थ्य आधुनिक मानव जीवन का मूल आधार है जो भावनात्मक स्थिरता तथा सामाजिक सद्भाव सुनिश्चित करता है। यह केवल मानसिक रोगों की अनुपस्थिति नहीं अपितु सकारात्मक मनोदशा, आत्मविश्वास तथा तनाव प्रबंधन की क्षमता है। तेजी से बदलते डिजिटल युग में सोशल मीडिया दबाव, शैक्षणिक प्रतिस्पर्धा तथा कार्यभार ने युवाओं में अवसाद तथा चिंता विकराल रूप धारण कर लिया है। मानसिक स्वास्थ्य संरक्षण हेतु नियमित ध्यान, प्राणायाम तथा प्रकृति चिंतन अत्यंत लाभकारी हैं। शैक्षणिक संस्थानों में भावनात्मक बुद्धिमत्ता को पाठ्यक्रम में स्थान मिलना चाहिए। परिवारों में खुली संवाद प्रक्रिया विकसित करनी होगी ताकि किशोर अपनी भावनाओं को व्यक्त कर सकें। कार्यालयों में मानसिक स्वास्थ्य दिवस तथा परामर्श केंद्र स्थापित किए जाने चाहिए। स्वामी विवेकानंद ने कहा था कि "उठो, जागो और तब तक न रुको जब तक लक्ष्य प्राप्त न हो" - यह मानसिक दृढ़ता का प्रतीक है। समाज स्तर पर मानसिक रोगों संबंधी कलंक मिटाना अनिवार्य है। ग्रामीण क्षेत्रों में मोबाइल मनोचिकित्सा इकाइयों का संचालन आवश्यक है। युवाओं को शौक पूर्ण तथा खेलकूद के माध्यम से तनाव मुक्ति सिखानी चाहिए। अंततः मानसिक स्वास्थ्य ही सच्ची प्रगति का सूचक है जो व्यक्ति को सृजनशील बनाता है तथा राष्ट्र को समृद्ध बनाता है।

SubQuestion No : 19**Q.19 गद्यांश के अनुसार युवाओं को तनाव मुक्ति के लिए क्या सिखाना चाहिए?**

- Ans
- 1. कार्यभार
 - 2. शौक पूर्ण तथा खेलकूद
 - 3. सोशल मीडिया
 - 4. अधिक पढ़ाई

Question ID : 4410091626970

Option 1 ID : 4410096426197

Option 2 ID : 4410096426194

Option 3 ID : 4410096426196

Option 4 ID : 4410096426195

Comprehension:

निम्नलिखित गद्यांश को ध्यानपूर्वक पढ़कर पूछे गये प्रश्नों के सही उत्तर दीजिए।
मानसिक स्वास्थ्य आधुनिक मानव जीवन का मूल आधार है जो भावनात्मक स्थिरता तथा सामाजिक सद्भाव सुनिश्चित करता है। यह केवल मानसिक रोगों की अनुपस्थिति नहीं अपितु सकारात्मक मनोदशा, आत्मविश्वास तथा तनाव प्रबंधन की क्षमता है। तेजी से बदलते डिजिटल युग में सोशल मीडिया दबाव, शैक्षणिक प्रतिस्पर्धा तथा कार्यभार ने युवाओं में अवसाद तथा चिंता विकराल रूप धारण कर लिया है। मानसिक स्वास्थ्य संरक्षण हेतु नियमित ध्यान, प्राणायाम तथा प्रकृति चिंतन अत्यंत लाभकारी हैं। शैक्षणिक संस्थानों में भावनात्मक बुद्धिमत्ता को पाठ्यक्रम में स्थान मिलना चाहिए। परिवारों में खुली संवाद प्रक्रिया विकसित करनी होगी ताकि किशोर अपनी भावनाओं को व्यक्त कर सकें। कार्यालयों में मानसिक स्वास्थ्य दिवस तथा परामर्श केंद्र स्थापित किए जाने चाहिए। स्वामी विवेकानंद ने कहा था कि "उठो, जागो और तब तक न रुको जब तक लक्ष्य प्राप्त न हो" - यह मानसिक दृढ़ता का प्रतीक है। समाज स्तर पर मानसिक रोगों संबंधी कलंक मिटाना अनिवार्य है। ग्रामीण क्षेत्रों में मोबाइल मनोचिकित्सा इकाइयों का संचालन आवश्यक है। युवाओं को शौक पूर्ण तथा खेलकूद के माध्यम से तनाव मुक्ति सिखानी चाहिए। अंततः मानसिक स्वास्थ्य ही सच्ची प्रगति का सूचक है जो व्यक्ति को सृजनशील बनाता है तथा राष्ट्र को समृद्ध बनाता है।

SubQuestion No : 20**Q.20 स्वामी विवेकानंद के उद्धरण का प्रतीक क्या है?**

- Ans
- 1. आर्थिक प्रगति
 - 2. शारीरिक बल
 - 3. मानसिक दृढ़ता
 - 4. सामाजिक कलंक

Question ID : 4410091626971
Option 1 ID : 4410096426201
Option 2 ID : 4410096426199
Option 3 ID : 4410096426200
Option 4 ID : 4410096426198

Section : Discipline1

Q.1 एक ही घर में पत्नी-बढ़ी माया और उसकी छोटी बहन का व्यक्तित्व एक दूसरे से बिल्कुल अलग है। माया मिलनसार और आग्रही है, जबकि उसकी बहन शांत (reserved) और सतर्क (cautious) है। संदर्भ के आधार पर इस अंतर को समझाने के लिए कौन-सा स्पष्टीकरण सबसे उपयुक्त है?

- Ans
- 1. मीडिया उपभोग में भिन्नता
 - 2. परिवार की सामाजिक-आर्थिक स्थिति
 - 3. विभिन्न विद्यालयी पाठ्यचर्या के संपर्क में आना
 - 4. स्वभाव में आनुवंशिकता और व्यक्तिगत अंतर

Question ID : 4410091628637
Option 1 ID : 4410096432696
Option 2 ID : 4410096432697
Option 3 ID : 4410096432695
Option 4 ID : 4410096432694

Q.2 माध्यमिक शिक्षा आयोग (1952-53) के अध्यक्ष कौन थे?

- Ans
- 1. डॉ. एस. राधाकृष्णन
 - 2. डॉ. गौतम पात्रा
 - 3. डॉ. ज़ाकिर हुसैन
 - 4. डॉ. ए. लक्ष्मणस्वामी मुदलियार

Question ID : 4410091611331
Option 1 ID : 4410096364181
Option 2 ID : 4410096364180
Option 3 ID : 4410096364182
Option 4 ID : 4410096364179

Q.3 पाठ्यचर्या विकास में व्यापकता के सिद्धांत (principle of comprehensiveness) का मुख्य केंद्र बिंदु क्या है?

- Ans
- 1. केवल शारीरिक शिक्षा पर बल देना
 - 2. अधिगम के सभी क्षेत्रों को संबोधित करना
 - 3. पाठ्येतर क्रियाकलापों पर ध्यान केंद्रित करना
 - 4. केवल अकादमिक विषयों को सम्मिलित करना

Question ID : 4410091679699
Option 1 ID : 4410096626977
Option 2 ID : 4410096626975
Option 3 ID : 4410096626976
Option 4 ID : 4410096626974

Q.4 शिक्षा के अधिकार पर संवैधानिक संशोधन का प्रमुख परिणाम क्या था?

- Ans
- 1. 6-14 वर्ष के बच्चों के लिए शिक्षा को मूलभूत अधिकार बना दिया गया।
 - 2. धार्मिक अनुदेशन अनिवार्य हो गया।
 - 3. सभी नागरिकों के लिए उच्चतर शिक्षा निःशुल्क हो गई।
 - 4. ग्रामीण समुदायों के लिए शिक्षा का निजीकरण कर दिया गया।

Question ID : 4410091630680
Option 1 ID : 4410096440868
Option 2 ID : 4410096440869
Option 3 ID : 4410096440866
Option 4 ID : 4410096440867

Q.5 एक शोधकर्ता एक ऐसे शिशु का प्रेक्षण करता है जो शुरू में प्रतिवर्त (reflex) द्वारा झुंझुने को पकड़ता है, लेकिन कुछ हफ्तों के बाद, उसे देखने के बाद जानबूझकर उसकी ओर हाथ बढ़ाता है। पियाजे के संवेदीप्रेरक चरण (sensorimotor stage) के अनुसार, अनैच्छिक से उद्देश्यपूर्ण क्रिया में इस बदलाव को कौन-सा विकासात्मक रुझान सर्वोत्तम रूप से व्याख्यायित करता है?

- Ans
- 1. गामक क्रिया (motor action) से मानसिक प्रतिनिधित्व की ओर बदलाव
 - 2. प्रतिवर्तों से लक्ष्य-निर्देशित गतिविधि की ओर बढ़ना
 - 3. स्वयं के शरीर से बाहरी दुनिया की ओर ध्यान देना
 - 4. वस्तु स्थायित्व (object permanence) का विकास

Question ID : 4410091620786
Option 1 ID : 4410096401952
Option 2 ID : 4410096401949
Option 3 ID : 4410096401950
Option 4 ID : 4410096401951

Q.6 यदि कोई विश्वविद्यालय राधाकृष्णन आयोग की सिफारिशों के आधार पर अपने शिक्षण कर्मचारियों में सुधार करने की योजना बना रहा है, तो उसे किन कार्यों को प्राथमिकता देनी चाहिए?

- Ans
- 1. उच्च शिक्षा के लिए अवकाश समाप्त करना और अनुसंधान पर फोकस करना
 - 2. अर्हता, वेतनमान और योग्यता-आधारित पदोन्नति में सुधार करना
 - 3. केवल प्रोफेसर्सों की भर्ती करना और अन्य श्रेणियों को समाप्त करना
 - 4. सेवानिवृत्ति की आयु में कमी करना और कार्य-अवधि में वृद्धि करना

Question ID : 4410091679499
Option 1 ID : 4410096626188
Option 2 ID : 4410096626186
Option 3 ID : 4410096626187
Option 4 ID : 4410096626185

Q.7 भारतीय समाज में हिंदू अवधारणा 'स्वधर्म' किस मूल्य पर बल देती है?

- Ans
- 1. स्व-चयनित और स्व-निर्धारित सामाजिक व्यवहार
 - 2. सामाजिक मानदंडों पर केंद्रीकृत नियंत्रण
 - 3. व्यक्तिगत उपलब्धियों पर विशेष ध्यान
 - 4. सभी समूहों में सामाजिक प्रथाओं में एकरूपता

Question ID : 4410091648944
Option 1 ID : 4410096511988
Option 2 ID : 4410096511990
Option 3 ID : 4410096511991
Option 4 ID : 4410096511989

Q.8 यदि 1949 के बाद स्थापित कोई प्रमुख विश्वविद्यालय, जिसे सरकार से सहायता अनुदान प्राप्त होता है, सभी छात्रों के लिए किसी एक विशेष धर्म के धार्मिक ग्रंथों में अनिवार्य शिक्षण अनिवार्य कर देता है, तो यह कार्रवाई मुख्यतः _____ की रक्षा करने वाले संवैधानिक अधिकार का उल्लंघन करेगी।

- Ans
- ✓ 1. शिक्षण में किसी प्रकार की बाध्यता के निषेध
 - ✗ 2. सांस्कृतिक अल्पसंख्यक संरक्षा
 - ✗ 3. प्रत्याभूतित समान अवसर
 - ✗ 4. अभिव्यक्ति की स्वतंत्रता

Question ID : 4410091549618
Option 1 ID : 4410096121174
Option 2 ID : 4410096121173
Option 3 ID : 4410096121176
Option 4 ID : 4410096121175

Q.9 भारतीय विद्यालयों में लड़कियों की उच्च ड्रॉपआउट दर के लिए मुख्यतः कौन-सा कारक उत्तरदायी है?

- Ans
- ✗ 1. पाठ्येतर गतिविधियाँ
 - ✓ 2. घरेलू उत्तरदायित्व
 - ✗ 3. स्कूल की दूरी
 - ✗ 4. शिक्षकों की कमी

Question ID : 4410091631281
Option 1 ID : 4410096443351
Option 2 ID : 4410096443349
Option 3 ID : 4410096443350
Option 4 ID : 4410096443348

Q.10 एक निजी विद्यालय के प्रधानाचार्य RTE-2009 के तहत नए प्रवेशों के लिए स्क्रीनिंग प्रक्रियाओं को लेकर भ्रमित हैं। अधिनियम के प्रावधानों के अनुसार सबसे सटीक कार्रवाई क्या है?

- Ans
- ✗ 1. चयन के लिए पिछले शैक्षणिक रिकॉर्ड का उपयोग करना
 - ✗ 2. अभिभावकों के साक्षात्कार की अनुमति देना, लेकिन विद्यार्थियों की नहीं
 - ✗ 3. केवल EWS आवेदकों के लिए अभिक्षमता परीक्षण आयोजित करना
 - ✓ 4. बच्चों को प्रवेश देने के लिए किसी भी स्क्रीनिंग प्रक्रिया या परीक्षण को प्रतिबंधित करना

Question ID : 4410091682764
Option 1 ID : 4410096638313
Option 2 ID : 4410096638312
Option 3 ID : 4410096638310
Option 4 ID : 4410096638311

Q.11 प्रारंभिक वर्षों के दौरान एक बच्चे के संवेगात्मक और सामाजिक विकास दोनों को सर्वाधिक प्रभावित करने वाला पहलू कौन-सा है?

- Ans
- 1. पोषण संबंधी आदतें
 - 2. माता-पिता और बच्चों के बीच संबंध
 - 3. बाहरी गतिविधियाँ
 - 4. अकादमिक उपलब्धियाँ

Question ID : 4410091624499
Option 1 ID : 4410096416532
Option 2 ID : 4410096416531
Option 3 ID : 4410096416534
Option 4 ID : 4410096416533

Q.12 विकास में निरंतरता का सिद्धांत क्या दर्शाता है?

- Ans
- 1. संज्ञानात्मक विकास के पड़ावों को प्राप्त करने के पश्चात शारीरिक परिपक्वता संपूर्ण रूप से रुक जाती है
 - 2. संवृद्धि आकस्मिक चरणों में होती है और लंबे समय तक उनके बीच कोई परिवर्तन नहीं होता है
 - 3. पर्यावरणीय कारक अनुमानित जीवन अंतराल पर आनुवंशिक प्रभावों को ओवरराइड करते हैं
 - 4. विकास एक क्रमिक, गर्भधारण से लेकर वयस्कता तक चलने वाली, प्रक्रिया है

Question ID : 4410091550492
Option 1 ID : 4410096124429
Option 2 ID : 4410096124427
Option 3 ID : 4410096124430
Option 4 ID : 4410096124428

Q.13 शांति शिक्षा (Peace Education) का एक मुख्य उद्देश्य क्या है?

- Ans
- 1. वर्तमान समय के पारस्परिक संबंधों पर ध्यान केंद्रित किए बिना ऐतिहासिक युद्धों और राजनीतिक संघर्षों पर शिक्षार्थियों के ज्ञान में सुधार करना
 - 2. सामाजिक अंतःक्रियाओं में प्रतिस्पर्धा और मुखरता को प्राथमिकता देकर व्यक्तिगत सफलता और नेतृत्व को बढ़ावा देना
 - 3. व्यक्तियों में शांतिपूर्ण सहअस्तित्व, आपसी सम्मान और अहिंसक संघर्ष समाधान को बढ़ावा देने वाले दृष्टिकोण, मूल्यों और कौशल का विकास करना
 - 4. संवाद और आपसी समझ की बजाय सत्ता के प्रति आज्ञापालन और कानूनों के कड़ाई से पालन पर जोर देकर राष्ट्रीय एकता को मजबूत करना

Question ID : 4410091649955
Option 1 ID : 4410096515944
Option 2 ID : 4410096515945
Option 3 ID : 4410096515942
Option 4 ID : 4410096515943

Q.14 'संवेग (emotion)' शब्द लैटिन शब्द एमोवेरे (emovere) से लिया गया है, जिसका मूल रूप से अर्थ क्या है?

- Ans
- 1. नैतिक रूप से न्याय करना (Judge morally)
 - 2. चिंतन या विमर्श (Think or reflect)
 - 3. वृद्धि और विकास (Grow and develop)
 - 4. उत्तेजित करना या उकसाना (Agitate or stir up)

Question ID : 4410091549463
Option 1 ID : 4410096120572
Option 2 ID : 4410096120570
Option 3 ID : 4410096120571
Option 4 ID : 4410096120569

Q.15 भारत के एक ग्रामीण विद्यालय में एक शिक्षिका ने देखा कि अनुसूचित जाति के विद्यार्थी आरक्षण नीतियों के तहत नामांकन सुनिश्चित होने के बावजूद कक्षा चर्चाओं में भाग लेने में संकोच कर रहे हैं। इस सहभागिता के अभाव का सबसे संभावित कारण क्या हो सकता है?

- Ans
- 1. कक्षा गतिविधियों में रुचि का अभाव
 - 2. आरक्षण के बावजूद सामाजिक बहिष्कार और कलंक का बने रहना
 - 3. अत्यधिक गृहकार्य
 - 4. सभी विद्यार्थियों के लिए अपर्याप्त कक्षा सामग्री

Question ID : 4410091604747
Option 1 ID : 4410096338154
Option 2 ID : 4410096338152
Option 3 ID : 4410096338155
Option 4 ID : 4410096338153

Q.16 एक नीति निर्माता उपेक्षित युवाओं (marginalized youth) में सामाजिक उत्थान की सीमित संभावना के मुद्दे का समाधान करना चाहता है, जबकि विद्यालय शिक्षा में नामांकन में वृद्धि हुई है। इन चुनौतियों के लिए कौन-सा अंतःक्षेप सबसे उपयुक्त है?

- Ans
- 1. देशव्यापी स्तर पर एक समान विद्यालय शुल्क लागू करना
 - 2. व्यावसायिक कौशल की शुरुआत और समान निधीयन
 - 3. उपेक्षित शिक्षार्थियों के लिए विद्यालयी शिक्षा के घंटे कम करना
 - 4. पाठ्यक्रम में केवल अकादमिक विषयों को अनिवार्य करना

Question ID : 4410091683101
Option 1 ID : 4410096639530
Option 2 ID : 4410096639531
Option 3 ID : 4410096639533
Option 4 ID : 4410096639532

Q.17 समाजीकरण की समाजशास्त्रीय अवधारणा, समाज में विद्यालयों के कार्य से किस प्रकार से संबंधित है?

- Ans
- 1. विद्यालय, विद्यार्थियों को सांस्कृतिक मूल्यों और मानदंडों का संचार करते हैं।
 - 2. विद्यालय, विद्यार्थियों के बीच संसाधनों का समान रूप से वितरण करते हैं।
 - 3. विद्यालय, विद्यार्थियों को केवल व्यावसायिक प्रशिक्षण प्रदान करते हैं।
 - 4. विद्यालयों में सामुदायिक भागीदारी के लिए खेल कार्यक्रम आयोजित किए जाते हैं।

Question ID : 4410091678828
Option 1 ID : 4410096623521
Option 2 ID : 4410096623524
Option 3 ID : 4410096623522
Option 4 ID : 4410096623523

Q.18 जब कोई बच्चा अंततः परिवार के दायरे से निकलकर अपने समकक्षियों के साथ संबंध स्थापित करता है, तो विकास का कौन-सा पहलू घटित हो रहा होता है?

- Ans
- 1. शारीरिक विकास
 - 2. संज्ञानात्मक विकास
 - 3. सामाजिक विकास
 - 4. संवेगात्मक विकास

Question ID : 4410091570053
Option 1 ID : 4410096201216
Option 2 ID : 4410096201214
Option 3 ID : 4410096201215
Option 4 ID : 4410096201213

Q.19 एक शिक्षक का कहना है कि प्रत्येक बच्चा अपने अनन्य चिंतन, भावना और व्यवहार के पैटर्न के कारण अलग-अलग प्रतिक्रिया देता है। यह क्या है?

- Ans
- 1. व्यक्तित्व
 - 2. आदत निर्माण
 - 3. बुद्धिमत्ता
 - 4. अभिप्रेरण

Question ID : 4410091551692
Option 1 ID : 4410096129396
Option 2 ID : 4410096129398
Option 3 ID : 4410096129397
Option 4 ID : 4410096129395

Q.20 यदि शिशु का सिर आगे की ओर झुक जाता है या तकिया गतिविधि (pillow activity) के दौरान शिशु को असुविधा होती है तो इस स्थिति में देखभालकर्ता को क्या करना चाहिए?

- Ans
- 1. शिशु को बिना किसी सहायता के प्रयास करते रहने देना चाहिए।
 - 2. यथाशीघ्र शिशु को उस अवस्थिति से उठाकर गोद में ले लेना चाहिए।
 - 3. शिशु पर ध्यान न देते हुए गतिविधि को जारी रखना चाहिए।
 - 4. शिशु का ध्यान आकर्षित करने के लिए शिशु को और खिलौने देने चाहिए।

Question ID : 4410091638979
Option 1 ID : 4410096473474
Option 2 ID : 4410096473473
Option 3 ID : 4410096473475
Option 4 ID : 4410096473476

Section : Discipline2

Q.1 कोई शिक्षा नीति निर्माता ऐसी पाठ्यचर्या तैयार कर रहा हैं जिसमें स्थानीय भाषाओं को शामिल किया गया है और जेंडर संवदेनशीलता को बढ़ावा दिया गया है, जिसका उद्देश्य हाशिए पर पड़े समुदायों की भागीदारी में सुधार करना है। शिक्षा के समाजशास्त्र का कौन-सा सिद्धांत मुख्यतः इनके इस उपागम का मार्गदर्शन कर रहा है?

- Ans
- 1. शिक्षणशास्त्र में तकनीकी नवप्रवर्तन
 - 2. आकलन-आधारित (driven) अधिगम
 - 3. प्रतिस्पर्धी अकादमिक विद्याशाखा
 - 4. सामाजिक समावेशन के साधन के रूप में पाठ्यचर्या

Question ID : 4410091682779
Option 1 ID : 4410096638372
Option 2 ID : 4410096638370
Option 3 ID : 4410096638373
Option 4 ID : 4410096638371

Q.2 विभिन्न आयु वर्ग के सहपाठी अनुशिक्षण (cross-age peer tutoring) में, अनुशिक्षक के रूप में कौन कार्य करता है?

- Ans
- 1. शिक्षक
 - 2. समान आयु वाला विद्यार्थी
 - 3. एक अधिक आयु वाला विद्यार्थी
 - 4. अन्य विद्यालय का विद्यार्थी

Question ID : 4410091576585
Option 1 ID : 4410096227154
Option 2 ID : 4410096227151
Option 3 ID : 4410096227152
Option 4 ID : 4410096227153

Q.3 एक शिक्षक शिक्षार्थियों में अंतर्राष्ट्रीय बोध को बढ़ाना चाहता है। इस लक्ष्य को प्राप्त करने के लिए कौन-सी कक्षाकक्ष कार्यनीति सबसे प्रभावी होगी?

- Ans
- 1. विद्यार्थियों को विद्यालयों के साथ विनिमय कार्यक्रमों में शामिल करना
 - 2. पाठ्यपुस्तकों में प्रसिद्ध विश्व नेताओं के बारे में पढ़ना
 - 3. विशेष सभाओं के साथ अंतर्राष्ट्रीय दिवस मनाना
 - 4. पाठ्यचर्या के भाग के रूप में विदेशी भाषाओं का शिक्षण

Question ID : 4410091608144
Option 1 ID : 4410096351506
Option 2 ID : 4410096351507
Option 3 ID : 4410096351505
Option 4 ID : 4410096351504

Q.4 एक बच्चा दो बराबर पंक्तियों में रखे हुए काउंटर्स को देखता है, लेकिन एक पंक्ति को फैलाए जाने के बाद, बच्चा कहता है कि उस पंक्ति में "अधिक" काउंटर्स हैं। पियाजे के अनुसार, यह बच्चा _____।

- Ans
- 1. तार्किक संरक्षण कौशल के साथ मूर्त संक्रियात्मक चिंतन का प्रदर्शन कर रहा है
 - 2. संवेदी-गामक अवस्था में तर्क कर रहा है, जो सीधे प्रत्यक्षणात्मक क्रियाओं पर निर्भर करता है
 - 3. अमूर्त तर्क पर आधारित औपचारिक संक्रियात्मक तर्क का उपयोग कर रहा है
 - 4. पूर्व-संक्रियात्मक अवस्था की विशेषताओं के अंतर्गत कार्य कर रहा है

Question ID : 4410091546970
Option 1 ID : 4410096110753
Option 2 ID : 4410096110750
Option 3 ID : 4410096110752
Option 4 ID : 4410096110751

Q.5 किसी शैक्षणिक परिवेश में किसी प्रतिष्ठित सांस्कृतिक व्यक्तित्व का सम्मान करते समय, कौन-सा उपागम उस व्यक्तित्व की समकालीन प्रासंगिकता को सबसे प्रभावी ढंग से उजागर करता है?

- Ans
- 1. सामाजिक परिवर्तनों से पृथक होकर व्यक्तित्व की उपलब्धियों पर ध्यान केंद्रित करना।
 - 2. यह विश्लेषण करना कि उस व्यक्तित्व के मूल्य वर्तमान सांस्कृतिक प्रथाओं (cultural practices) को किस प्रकार प्रभावित करते हैं।
 - 3. संदर्भगत विश्लेषण के बिना व्यक्तित्व के जीवन की कालानुक्रमिक घटनाओं (chronological events) को सूचीबद्ध करना।
 - 4. केवल आकलन के उद्देश्य से व्यक्तित्व के जीवनी संबंधी तथ्यों को स्मरण करना।

Question ID : 4410091631185
Option 1 ID : 4410096442966
Option 2 ID : 4410096442964
Option 3 ID : 4410096442965
Option 4 ID : 4410096442967

Q.6 एक शिक्षक मंद श्वसन और विश्रान्ति अभ्यासों के साथ कक्षा प्रारंभ करता है। यह किसका उदाहरण है?

- Ans
- 1. एकाग्रता बढ़ाने के लिए एक सचेतनता-आधारित उपागम
 - 2. चिंतन को बढ़ाने के लिए डिज़ाइन किया गया एक तार्किक तर्क अभ्यास
 - 3. सहनशक्ति बनाने के उद्देश्य से एक शारीरिक प्रशिक्षण कार्यक्रम
 - 4. विद्यार्थियों की रैंकिंग पर केंद्रित एक प्रतिस्पर्धी अधिगम रणनीति

Question ID : 4410091568313
Option 1 ID : 4410096194536
Option 2 ID : 4410096194538
Option 3 ID : 4410096194537
Option 4 ID : 4410096194539

Q.7 निम्नलिखित में से कौन-सा, कोल्ब के अनुभवात्मक अधिगम चक्र के पहले चरण का सटीक वर्णन करता है?

- Ans
- 1. उस अनुभव का अवलोकन और चिंतन
 - 2. मूर्त व्यक्तिगत अनुभव
 - 3. अमूर्त अवधारणाएँ और सामान्यीकरण
 - 4. सक्रिय प्रयोगीकरण

Question ID : 4410091644893
Option 1 ID : 4410096496109
Option 2 ID : 4410096496106
Option 3 ID : 4410096496107
Option 4 ID : 4410096496108

Q.8 उस विकल्प का चयन कीजिए, जो सामूहिक कार्य में सामान्यतः देखे जाने वाले सहयोगात्मक (cooperative) व्यवहार का सर्वोत्तम रूप से वर्णन करता है।

- Ans
- 1. समूह के लक्ष्यों की अनदेखी करना और केवल व्यक्तिगत कार्यों पर ध्यान केंद्रित करना
 - 2. परिचर्चा पर प्रभावी होने के लिए दूसरों को बाधित करना
 - 3. समूह गतिविधियों के दौरान सहभागिता से बचना
 - 4. विचारों को साझा करना और टीम के सदस्यों के योगदान का समर्थन करना

Question ID : 4410091542410
Option 1 ID : 4410096092746
Option 2 ID : 4410096092743
Option 3 ID : 4410096092744
Option 4 ID : 4410096092745

Q.9 पूर्व प्राथमिक-विद्यालय और आरंभिक विद्यालय वर्षों के दौरान, समकालीन समझ के अनुसार कौन-सा कारक भाषा अर्जन में सबसे महत्वपूर्ण रूप से सहायक होता है?

- Ans
- 1. बोले बिना लिखित पाठ का मनन करना
 - 2. सहपाठियों और वयस्कों के साथ अर्थपूर्ण बातचीत
 - 3. पृथक शब्दावली सूचियों का कंठस्थीकरण
 - 4. व्याकरणिक अभ्यासों का सख्त अनुपालन

Question ID : 4410091631457
Option 1 ID : 4410096444045
Option 2 ID : 4410096444044
Option 3 ID : 4410096444046
Option 4 ID : 4410096444047

Q.10 विज्ञान पाठ्यचर्या में सहपाठी अनुशिक्षण को कार्यान्वित करते समय, एक शिक्षक विद्यार्थियों की सहभागिता के विभिन्न स्तरों का अवलोकन करता है। सहभागिता में इन अंतरों को दूर करने और सभी विद्यार्थियों के लिए समान अधिगम अवसर सुनिश्चित करने के लिए कौन-सा अभ्यास सबसे उपयुक्त होगा?

- Ans
- 1. पूरे समय में केवल उच्च उपलब्धि हासिल करने वालों को उपशिक्षक बनने की अनुमति देना
 - 2. समकक्षियों के साथ अंतःक्रिया के लिए केवल लिखित सामग्री उपलब्ध कराना
 - 3. नियमित अंतराल पर उपशिक्षक और उप शिक्षार्थी की भूमिकाओं को बदलना
 - 4. पूर्व उपलब्धि के आधार पर स्थायी अनुशिक्षक की भूमिकाएँ सौंपना

Question ID : 4410091622951
Option 1 ID : 4410096410575
Option 2 ID : 4410096410574
Option 3 ID : 4410096410573
Option 4 ID : 4410096410572

Q.11 अवलोकन के माध्यम से आत्म-बोध विकसित करने में पहला चरण क्या है?

- Ans
- 1. स्वयं के प्रति जागरूक होना
 - 2. दूसरों के कार्यों का आकलन करना
 - 3. शीघ्र निर्णय लेना
 - 4. दूसरों से सलाह लेना

Question ID : 4410091607850
Option 1 ID : 4410096350348
Option 2 ID : 4410096350351
Option 3 ID : 4410096350350
Option 4 ID : 4410096350349

Q.12 कोई शिक्षक, चुनौतीपूर्ण परिस्थितियों के प्रति अनुक्रिया करने से पहले विद्यार्थियों को अपनी संवेगों की पहचान करने हेतु प्रोत्साहित करके कक्षाकक्ष में सचेतनता का परिचय देना चाहता है। कौन-सा उपागम इस लक्ष्य का सर्वोत्तम समर्थन करता है?

- Ans
- 1. पठन के समय मौन रहना
 - 2. सचेतनता तथ्यों पर त्वरित प्रश्नोत्तरी
 - 3. समूह क्रियाकलापों के बाद निर्देशित अनुचितन सत्र
 - 4. कक्षाकक्ष नियमों को याद रखना

Question ID : 4410091608216
Option 1 ID : 4410096351788
Option 2 ID : 4410096351791
Option 3 ID : 4410096351790
Option 4 ID : 4410096351789

Q.13 भाषा अर्जन के संदर्भ में, पूर्व-विद्यालय के बच्चों के लिए कौन-सी विधि सबसे प्रभावी है?

- Ans
- 1. अन्तःक्रियात्मक कथाकारिता और खेल-आधारित गतिविधियों में भाग लेना।
 - 2. अभ्यास के लिए केवल लिखित भाषा सामग्री प्रदान करना।
 - 3. दैनिक समापन के लिए व्याकरण कार्यपत्रक निर्धारित करना।
 - 4. प्रगति मापन के लिए पूरी तरह से औपचारिक परीक्षण पर निर्भर रहना।

Question ID : 4410091641500
Option 1 ID : 4410096483111
Option 2 ID : 4410096483112
Option 3 ID : 4410096483113
Option 4 ID : 4410096483114

Q.14 कोई शिक्षक गणित की नई अवधारणाओं को विद्यार्थियों के दैनिक अनुभवों से जोड़ने के लिए वास्तविक जीवन के उदाहरणों का उपयोग करता है। शिक्षण का कौन-सा सिद्धांत लागू किया जा रहा है?

- Ans
- 1. शिक्षण को विद्यार्थियों के पिछले ज्ञान की उपेक्षा करना चाहिए।
 - 2. शिक्षण को जटिल अवधारणाओं से सरल अवधारणाओं की ओर बढ़ना चाहिए।
 - 3. शिक्षण को मूर्त से अमूर्त अवधारणाओं की ओर बढ़ना चाहिए।
 - 4. शिक्षण को पहले केवल अमूर्त अवधारणाओं पर ध्यान केंद्रित करना चाहिए।

Question ID : 4410091641458
Option 1 ID : 4410096482945
Option 2 ID : 4410096482946
Option 3 ID : 4410096482943
Option 4 ID : 4410096482944

Q.15 शिक्षा में शिक्षाशास्त्र (Pedagogy) मुख्य रूप से किसे संदर्भित करता है?

- Ans
- 1. विद्यालय की अवसंरचना
 - 2. शिक्षण विधियाँ
 - 3. कक्षा का आकार
 - 4. विद्यार्थी व्यवहार

Question ID : 4410091629125
Option 1 ID : 4410096434616
Option 2 ID : 4410096434614
Option 3 ID : 4410096434615
Option 4 ID : 4410096434617

Q.16 कोई अध्यापक-शिक्षक विद्यार्थी शिक्षकों के लिए साप्ताहिक असाइनमेंट में सामाजिक विविधता पर केंद्रित जर्नल लेखन के लिए कुछ प्रश्न शामिल करता है। कुछ हफ्तों के बाद, एक विद्यार्थी ने विभिन्न भाषाई पृष्ठभूमि वाले सहपाठियों के प्रति सहानुभूति में सुधार देखा। जर्नल लेखन के किस पहलू ने इस बदलाव में योगदान दिया?

- Ans
- 1. विविधता पर बाह्य बहसों में सहभागिता।
 - 2. पाठ्यपुस्तकों से विविधता से संबंधित तथ्यों का स्मरण।
 - 3. संवेगात्मक प्रक्रमण और विविधता के अनुभवों पर अनुचितन।
 - 4. भाषा की परिशुद्धता के लिए जर्नल प्रविष्टियों का नियमित श्रेणीकरण।

Question ID : 4410091683145
Option 1 ID : 4410096639661
Option 2 ID : 4410096639659
Option 3 ID : 4410096639658
Option 4 ID : 4410096639660

Q.17 एक शिक्षक अधिगम का आकलन करने हेतु वर्कशीट, प्रेक्षण नोट्स और विद्यार्थी पोर्टफोलियो का उपयोग करता है। यह क्या दर्शाता है?

- Ans
- 1. केवल सहपाठियों के फीडबैक पर आश्रित आकलन
 - 2. एकल मानकीकृत परीक्षण के आधार पर आकलन
 - 3. व्यापक आकलन के लिए बहुस्रोत
 - 4. केवल मौखिक परि-प्रश्नों के माध्यम से संचालित मूल्यांकन

Question ID : 4410091568360
Option 1 ID : 4410096194727
Option 2 ID : 4410096194724
Option 3 ID : 4410096194725
Option 4 ID : 4410096194726

Q.18 एक सत्र के दौरान, शिक्षक विद्यार्थियों के राइटिंग, ड्राइंग और रिप्लेक्शन शीट के पोर्टफोलियो को संग्रहीत करता है। सत्रांत एकल परीक्षा की तुलना में यह विधि कौन-सा अद्वितीय लाभ प्रदान करती है?

- Ans
- 1. यह समय के साथ प्रत्येक विद्यार्थी के विकास और प्रगति को दर्शाती है।
 - 2. यह केवल सृजनात्मक योग्यताओं पर केंद्रित होती है।
 - 3. यह किसी भी औपचारिक परीक्षा की आवश्यकता को समाप्त करती है।
 - 4. यह प्रत्येक कार्य के बाद तत्काल फीडबैक प्रदान करती है।

Question ID : 4410091683555
Option 1 ID : 4410096641146
Option 2 ID : 4410096641148
Option 3 ID : 4410096641147
Option 4 ID : 4410096641149

Q.19 निम्नलिखित में से कौन-सा विकल्प सर्वोत्तम तरीके से यह वर्णन करता है कि प्रारंभिक विद्यालयी वर्षों में भाषा अर्जन के लिए खेल-आधारित परिवेश क्यों महत्वपूर्ण है?

- Ans
- 1. इनमें बच्चों को वयस्कों के वार्तालाप को मौन रहकर प्रेक्षण करने की आवश्यकता होती है।
 - 2. वे मुख्य रूप से शब्दों को शीघ्रता से याद करने के लिए संरचित अभ्यास गतिविधियों पर केंद्रित होते हैं।
 - 3. वे व्यावहारिक उपयोग की तुलना में शब्द सूचियों के स्मरण पर बल देते हैं।
 - 4. वे सार्थक संचार और शब्दावली वृद्धि के लिए प्राकृतिक संदर्भ प्रदान करते हैं।

Question ID : 4410091608504
Option 1 ID : 4410096352930
Option 2 ID : 4410096352929
Option 3 ID : 4410096352931
Option 4 ID : 4410096352928

Q.20 निम्नलिखित में से कौन-सा, भाषा शिक्षण में कविता का उपयोग करने का प्रमुख लाभ है?

- Ans
- 1. यह केवल शाब्दिक भाषा के उपयोग पर केंद्रित है
 - 2. यह भाषा और अर्थ के प्रति संवेदनशीलता विकसित करता है
 - 3. यह भावनात्मक भागीदारी से बचाता है
 - 4. यह व्याकरणिक नियमों के स्मरण में सुधार करता है

Question ID : 4410091610767
Option 1 ID : 4410096361937
Option 2 ID : 4410096361936
Option 3 ID : 4410096361938
Option 4 ID : 4410096361935

Q.1 Which term describes words that a person recognizes but does not use regularly?

- Ans
- 1. Slang vocabulary
 - 2. Technical vocabulary
 - 3. Passive vocabulary
 - 4. Active vocabulary

Question ID : 4410091629723
Option 1 ID : 4410096436981
Option 2 ID : 4410096436980
Option 3 ID : 4410096436979
Option 4 ID : 4410096436978

Q.2 एक प्राथमिक शिक्षिका अवलोकन करती है कि उसकी कक्षा के बच्चे अपने बनाए नियमों के अनुसार खेल खेलना पसंद करते हैं। वह किस प्रकार के खेल देख रही है?

- Ans
- 1. ऐसे दर्शक खेल जिसमें बच्चे दूसरों को खेलते हुए देखते हैं
 - 2. ऐसे समानांतर खेल जिसमें बच्चे बिना किसी अंतःक्रिया के आस-पास खेलते हैं
 - 3. ऐसे सहयोगात्मक खेल जिनमें बच्चे बातचीत करते हैं और साझा नियम बनाते हैं
 - 4. ऐसे एकांतिक खेल जिनमें बच्चे बिना अंतःक्रिया के खेलते हैं

Question ID : 4410091641763
Option 1 ID : 4410096484131
Option 2 ID : 4410096484132
Option 3 ID : 4410096484129
Option 4 ID : 4410096484130

Q.3 विद्यालयों को सहयोग देने में NGO की सामान्य भूमिका क्या है?

- Ans
- 1. नियमित कक्षागत शिक्षण कार्य का संचालन करना
 - 2. कार्यक्रमों के लिए संसाधन या निधियन उपलब्ध कराना
 - 3. विद्यालय की आधिकारिक नीतियों और नियमों को निर्धारित करना
 - 4. औपचारिक विद्यार्थी चुनाव कार्यक्रमों का आयोजन करना

Question ID : 4410091686900
Option 1 ID : 4410096654423
Option 2 ID : 4410096654422
Option 3 ID : 4410096654424
Option 4 ID : 4410096654425

Q.4 प्राथमिक और माध्यमिक शिक्षा में बालकों की तुलना में बालिकाओं के नामांकन की तुलना करने के लिए स्रोतों में किस सांख्यिकीय माप का उपयोग किया जाता है?

- Ans
- 1. प्रतिधारण दर
 - 2. जेंडर समता सूचकांक
 - 3. ड्रॉपआउट (पढ़ाई बीच में छोड़ना) प्रतिशत
 - 4. साक्षरता स्तर

Question ID : 4410091635885
Option 1 ID : 4410096461518
Option 2 ID : 4410096461516
Option 3 ID : 4410096461517
Option 4 ID : 4410096461515

Q.5 कौन-सा कार्य सबसे स्पष्ट रूप से एक प्रभावी और सहयोगी PTA-विद्यालय साझेदारी का प्रतिनिधित्व करता है?

- Ans
- 1. माता-पिता केवल तभी प्रतिक्रिया देते हैं जब विद्यालय प्रशासन द्वारा उन्हें औपचारिक रूप से आमंत्रित किया जाता है।
 - 2. माता-पिता मुख्य रूप से विद्यालय की अवसंरचना का समर्थन करने के लिए धन जुटाने से संबंधित गतिविधियों पर ध्यान केंद्रित करते हैं।
 - 3. माता-पिता और शिक्षक संयुक्त रूप से विद्यालय में सुधार के प्रयासों की योजना बनाते हैं और उनकी समीक्षा करते हैं।
 - 4. माता-पिता संरचित PTA के माध्यम से अपनी चिंताओं को व्यक्त करने के बजाय व्यक्तिगत रूप से अपनी चिंताओं को व्यक्त करते हैं।

Question ID : 4410091547874
Option 1 ID : 4410096114327
Option 2 ID : 4410096114329
Option 3 ID : 4410096114328
Option 4 ID : 4410096114330

Q.6 निम्नलिखित में से किस प्रकार के खेल में एक बच्चा एक स्पष्ट लक्ष्य के साथ कुछ बनाता है, जैसे कि एक रेतीला किला बनाना या ब्लॉकों के साथ एक संरचना का निर्माण करना?

- Ans
- 1. अन्वेषणात्मक खेल (Explorative Play)
 - 2. रचनात्मक खेल (Constructive Play)
 - 3. कल्पनाशील खेल (Imaginative Play)
 - 4. नियमों वाले खेल (Play with Rules)

Question ID : 4410091579419
Option 1 ID : 4410096238961
Option 2 ID : 4410096238962
Option 3 ID : 4410096238963
Option 4 ID : 4410096238964

Q.7 निम्नलिखित में से कौन-सा, प्रारंभिक अवस्था पर गणित शिक्षण के व्यापक उद्देश्य को दर्शाता है?

- Ans 1. तर्क और समस्या-समाधान कौशलों का विकास
 2. तथ्यों, सूत्रों और प्रमेयों को कंठस्थ करना
 3. स्पीड और परीक्षा प्रदर्शन पर बल देना
 4. समझ के बिना केवल प्रक्रियात्मक ज्ञान तक सीमित रहना

Question ID : 4410091620887
 Option 1 ID : 4410096402353
 Option 2 ID : 4410096402354
 Option 3 ID : 4410096402355
 Option 4 ID : 4410096402356

Q.8 निम्नलिखित में से कौन-से बुद्धि के मूल पहलू हैं?

1. विश्लेषणात्मक बुद्धि
2. सृजनात्मक बुद्धि
3. व्यावहारिक बुद्धि
4. सांस्कृतिक बुद्धि

- Ans 1. केवल 1
 2. 1, 2, 4
 3. 1, 3, 4
 4. 1, 2, 3

Question ID : 4410091546937
 Option 1 ID : 4410096110616
 Option 2 ID : 4410096110617
 Option 3 ID : 4410096110619
 Option 4 ID : 4410096110618

Q.9 पियाजे (Piaget) के अनुसार, कौन-सी पद्धति बच्चों के गणितीय अवधारणाओं के विकास में सर्वाधिक सहायक है?

- Ans 1. रटन स्मरणीकरण
 2. सक्रिय अन्वेषण
 3. निष्क्रिय श्रवण
 4. प्रत्यक्ष अनुदेश

Question ID : 4410091633227
 Option 1 ID : 4410096451025
 Option 2 ID : 4410096451024
 Option 3 ID : 4410096451023
 Option 4 ID : 4410096451022

Q.10 जब कक्षा 2 का बच्चा दूसरों को स्पष्ट स्थानिक निर्देश देने में विफल रहता है, तो उसे किस प्राथमिक संज्ञानात्मक चुनौती का सामना करना पड़ता है?

- Ans
- 1. उत्क्रमणीयता
 - 2. वस्तु स्थायित्व
 - 3. अहंकेन्द्रिकता
 - 4. संरक्षण

Question ID : 4410091558434
Option 1 ID : 4410096156135
Option 2 ID : 4410096156136
Option 3 ID : 4410096156134
Option 4 ID : 4410096156133

Q.11 कौन-सी अवधारणा नवीन संगठनात्मक मॉडलों वाले स्कूलों के निर्माण पर केंद्रित है?

- Ans
- 1. विद्यालयी संस्कृति
 - 2. शिक्षा नीति
 - 3. शिक्षक पहचान
 - 4. शिक्षा में विकल्प

Question ID : 4410091631399
Option 1 ID : 4410096443816
Option 2 ID : 4410096443819
Option 3 ID : 4410096443817
Option 4 ID : 4410096443818

Q.12 शिक्षा के लिए एक दृष्टिकोण विकसित करने में शिक्षकों का कौन-सा कार्य, नैतिक विद्यालय संस्कृति को सटीक रूप से बढ़ावा देता है?

- Ans
- 1. नैतिक निर्णयों को प्रशासन को प्रत्यायोजित करना
 - 2. माता-पिता के साथ संचार सीमित करना
 - 3. केवल शैक्षणिक उपलब्धि पर फोकस करना
 - 4. सभी प्रकार के विचार-विमर्श में निष्पक्षता और सम्मान का प्रतिरूपण करना

Question ID : 4410091635607
Option 1 ID : 4410096460449
Option 2 ID : 4410096460450
Option 3 ID : 4410096460447
Option 4 ID : 4410096460448

Q.13 किसी स्नातक सुविधाप्रदाता को सकारात्मक और समावेशी अधिगम परिवेश को बढ़ावा देने के लिए मुख्यतः किस अभिवृत्ति को प्रदर्शित करना चाहिए?

- Ans 1. ग्रहणशीलता (Open-mindedness)
 2. प्रतिस्पर्धात्मकता (Competitiveness)
 3. उदासीनता (Indifference)
 4. नियमनिष्ठता (Strictness)

Question ID : 4410091623819
Option 1 ID : 4410096413848
Option 2 ID : 4410096413851
Option 3 ID : 4410096413850
Option 4 ID : 4410096413849

Q.14 The subject and verb in a sentence should match and this is called ____.

- Ans 1. Subject Verb agreement
 2. Subject advantage
 3. Subject adjective agreement
 4. Subject object agreement

Question ID : 4410091546929
Option 1 ID : 4410096110584
Option 2 ID : 4410096110587
Option 3 ID : 4410096110585
Option 4 ID : 4410096110586

Q.15 खेल के किस चरण में बच्चे शामिल हुए बिना दूसरों का अवलोकन करते हैं, कभी-कभी गतिविधि के संबंध में जानने के लिए सामाजिक अन्तःक्रिया में शामिल होते हैं?

- Ans 1. दर्शक खेल (Onlooker play)
 2. समांतर खेल (Parallel play)
 3. अव्यस्त खेल (Unoccupied play)
 4. एकांतिक खेल (Solitary play)

Question ID : 4410091647937
Option 1 ID : 4410096508015
Option 2 ID : 4410096508017
Option 3 ID : 4410096508018
Option 4 ID : 4410096508016

Q.16 किस वाक्य में subject-verb agreement का सही से अनुसरण किया गया है?

- Ans
- 1. The group of students are going on a trip.
 - 2. The players of the team is tired.
 - 3. The list of items are on the table.
 - 4. The teacher along with students is present.

Question ID : 4410091568378
Option 1 ID : 4410096194796
Option 2 ID : 4410096194799
Option 3 ID : 4410096194797
Option 4 ID : 4410096194798

Q.17 Which sentence uses correct subject-verb agreement with a compound subject joined by 'and'?

- Ans
- 1. The teacher and the principal approves the new curriculum.
 - 2. The teacher and the principal is approving the new curriculum.
 - 3. The teacher and the principal have approved the new curriculum.
 - 4. The teacher and the principal has approved the new curriculum.

Question ID : 4410091647005
Option 1 ID : 4410096504283
Option 2 ID : 4410096504284
Option 3 ID : 4410096504281
Option 4 ID : 4410096504282

Q.18 निम्नलिखित में से कौन-सा, एक प्रभावी शिक्षक की प्रमुख विशेषता का सर्वोत्तम रूप से वर्णन करता है?

- Ans
- 1. तदनुभूति प्रदर्शित करना, विषय का ज्ञान बनाए रखना और सकारात्मक अधिगम परिवेश को बढ़ावा देना
 - 2. समीक्षात्मक चिंतन को प्रोत्साहित किए बिना केवल पूर्णतः रटन शिक्षण तरीकों पर निर्भर रहना
 - 3. शिक्षार्थियों की आवश्यकताओं या रुचियों का समाधान किए बिना केवल पाठ्यक्रम पर पूर्णतः ध्यान केंद्रित करना
 - 4. कक्षा में विद्यार्थियों के साथ जुड़ने की तुलना में प्रशासनिक कार्यों को प्राथमिकता देना

Question ID : 4410091546572
Option 1 ID : 4410096109167
Option 2 ID : 4410096109169
Option 3 ID : 4410096109168
Option 4 ID : 4410096109170

Q.19 TV विज्ञापनों से वयस्कों की खरीदारी की इच्छा में वृद्धि करने वाला प्रमुख कारक क्या है?

- Ans
- 1. सांस्कृतिक अप्रासंगिकता आयातित उत्पादों के प्रति आकर्षण में वृद्धि करती है।
 - 2. बार-बार देखने से परिचितता, विश्वास और ब्रांड के प्रति प्रबल अधिमान्यता विकसित होती है।
 - 3. भावनात्मक अपील या मशहूर हस्तियों के चेहरों के बिना भी एक बार का उद्घासन ही काफी होता है।
 - 4. स्पष्ट नकारात्मक संदेश, सकारात्मक विज्ञापन पुनरावृत्तियों के विपरीत खरीदारी को रोकते हैं।

Question ID : 4410091563716
Option 1 ID : 4410096176435
Option 2 ID : 4410096176433
Option 3 ID : 4410096176434
Option 4 ID : 4410096176436

Q.20 निम्नलिखित में से कौन-सा कारक, भारतीय समाज में लैंगिक भूमिकाओं को महत्वपूर्ण रूप से प्रभावित करता है?

- Ans
- 1. सामाजिक अधिगम को शामिल किए बिना केवल आर्थिक स्थिति पर विशेष ध्यान केंद्रित करना
 - 2. बच्चों पर पारिवारिक प्रथा, सांस्कृतिक परंपराओं, शिक्षा और मीडिया का प्रभाव
 - 3. सामाजिक या सांस्कृतिक संदर्भों पर विचार किए बिना केवल जैविक अंतर
 - 4. परिवार या समुदाय के मानदंडों के किसी भी प्रभाव के बिना सरकारी नीतियां

Question ID : 4410091546582
Option 1 ID : 4410096109209
Option 2 ID : 4410096109207
Option 3 ID : 4410096109208
Option 4 ID : 4410096109210

Section : Discipline4

Q.1 शिक्षण-अधिगम प्रक्रिया में, पाठ्यपुस्तक की मुख्य भूमिका निम्नलिखित में से कौन-सी है?

- Ans
- 1. संरचित अधिगम विषयवस्तु प्रदान करना
 - 2. केवल परीक्षा संदर्शिका के रूप में कार्य करना
 - 3. शिक्षक की अनुदेशात्मक भूमिका को प्रतिस्थापित करना
 - 4. अधिगम को निर्धारित सूचना तक सीमित रखना

Question ID : 4410091584448
Option 1 ID : 4410096259030
Option 2 ID : 4410096259028
Option 3 ID : 4410096259027
Option 4 ID : 4410096259029

Q.2 एक प्राथमिक शिक्षक विद्यार्थियों की अंग्रेज़ी में ऑडियो रिकॉर्डिंग, कहानियों और मौखिक प्रस्तुतियों के साथ एक रचनात्मक आकलन पोर्टफोलियो तैयार करता है। यह किस आकलन सिद्धांत को सर्वोत्तम रूप से दर्शाता है?

- Ans
- 1. रचनात्मक, कौशल-आधारित परिणामों पर केंद्रित अधिगम के रूप में आकलन
 - 2. केवल मानकीकृत लिखित परीक्षाओं के माध्यम से योगात्मक आकलन
 - 3. कार्य पूरा करने की गति के आधार पर विद्यार्थियों की रैंकिंग
 - 4. केवल लिखित व्याकरण अभ्यासों का आकलन करना

Question ID : 4410091608856

Option 1 ID : 4410096354340

Option 2 ID : 4410096354341

Option 3 ID : 4410096354343

Option 4 ID : 4410096354342

Q.3 शिक्षकों का एक समूह ऐसे पाठ की अभिकल्पना करता है जिसमें विद्यार्थियों को जाति और निर्धनता से संबंधित प्रचलित सामाजिक मानदंडों की समीक्षा करने की आवश्यकता होती है, जिससे वाद-विवाद और चिंतन को प्रोत्साहन मिलता है। इस शिक्षण पद्धति का मुख्य उद्देश्य क्या है?

- Ans
- 1. प्रतिस्पर्धात्मक शैक्षणिक प्रदर्शन
 - 2. सामाजिक न्याय के लिए समालोचनात्मक अन्वीक्षण
 - 3. नियमों का औपचारिक पालन
 - 4. आर्थिक प्रगति

Question ID : 4410091633268

Option 1 ID : 4410096451186

Option 2 ID : 4410096451187

Option 3 ID : 4410096451188

Option 4 ID : 4410096451189

Q.4 स्नातक स्तर पर सामाजिक अध्ययन के दायरे का आलोचनात्मक मूल्यांकन करते समय, कौन-सा परिदृश्य वास्तविक विश्व की नीतिगत चुनौती के लिए इसके अनुप्रयोग का सर्वोत्तम उदाहरण प्रस्तुत करता है?

- Ans
- 1. केवल राजनीतिक सिद्धांत के माध्यम से शासन का विश्लेषण करना
 - 2. ऐतिहासिक शहरीकरण के प्रवृत्तियों की समीक्षा करना
 - 3. सामाजिक या राजनीतिक संदर्भ के बिना आर्थिक संकेतकों का अध्ययन करना
 - 4. सामाजिक, राजनीतिक और आर्थिक आंकड़ों का उपयोग करके नीतियों का प्रस्ताव करना

Question ID : 4410091624031

Option 1 ID : 4410096414710

Option 2 ID : 4410096414708

Option 3 ID : 4410096414711

Option 4 ID : 4410096414709

Q.5 विद्यालय की प्रभावशीलता मापने का प्राथमिक सूचक कौन-सा है?

- Ans
- 1. पाठ्येतर गतिविधियों की संख्या
 - 2. विद्यालय निरीक्षणों की आवृत्ति
 - 3. विद्यालय के अवसंरचना की आयु
 - 4. अधिगम निर्गतों की प्राप्ति

Question ID : 4410091641245
Option 1 ID : 4410096482133
Option 2 ID : 4410096482136
Option 3 ID : 4410096482135
Option 4 ID : 4410096482134

Q.6 एक EVS पाठ के दौरान, शिक्षक विद्यार्थियों से विभिन्न प्रकार के पत्तों को देखने, उन्हें आकृति के अनुसार समूहबद्ध करने और यह पूर्वानुमान करने के लिए कहता है कि जल पर कौन-सा पत्ता तैर सकता है। यहां मुख्य रूप से किस उपागम का उपयोग किया जा रहा है?

- Ans
- 1. प्रक्रिया उपागम
 - 2. समाकलित उपागम
 - 3. समावेशी उपागम
 - 4. वैज्ञानिक उपागम

Question ID : 4410091608839
Option 1 ID : 4410096354276
Option 2 ID : 4410096354278
Option 3 ID : 4410096354279
Option 4 ID : 4410096354277

Q.7 वैश्रीकरण, उदारीकरण और निजीकरण (GLP), शिक्षा और समाज को किस प्रकार प्रभावित करते हैं?

- Ans
- 1. ये केवल सांस्कृतिक अध्ययन पर ध्यान केंद्रित करते हैं और वैज्ञानिक विकास की उपेक्षा करते हैं
 - 2. ये पहुंच का विस्तार करते हैं, प्रतिस्पर्धा शुरू करते हैं और गुणवत्ता में सुधार को प्रोत्साहित करते हैं
 - 3. ये सभी पारंपरिक शिक्षण विधियों को हटा देते हैं और विद्यालयों को पूरी तरह से बदल देते हैं
 - 4. ये ज्ञान-साझाकरण को प्रतिबंधित करते हैं और विद्यार्थियों के लिए अधिगम के अवसरों को सीमित करते हैं

Question ID : 4410091551000
Option 1 ID : 4410096126254
Option 2 ID : 4410096126251
Option 3 ID : 4410096126253
Option 4 ID : 4410096126252

Q.8 शिक्षा के सभी चरणों में शैक्षिक सुविधाओं की उपलब्धता सुनिश्चित करने में प्राथमिक शिक्षा निदेशक की क्या भूमिका होती है?

- Ans
- 1. उच्च शिक्षा पाठ्यचर्या नीतियाँ बनाना
 - 2. सभी विद्यालय परिसरों में स्वास्थ्य सुविधाओं का प्रावधान सुनिश्चित करना
 - 3. प्राथमिक शिक्षा सुविधाओं की योजना बनाना, उन्हें कार्यान्वित करना और उनकी निगरानी करना
 - 4. राष्ट्रीय-स्तर की प्रतियोगी परीक्षाओं का आयोजन करना

Question ID : 4410091658481
Option 1 ID : 4410096548542
Option 2 ID : 4410096548541
Option 3 ID : 4410096548540
Option 4 ID : 4410096548543

Q.9 निम्नलिखित में से कौन-सा विकल्प सर्वोत्तम रूप से यह दर्शाता है कि प्राथमिक शिक्षा निदेशक विभिन्न क्षेत्रों में समावेशी विद्यालय संस्कृति को प्रभावी रूप से कैसे बढ़ावा दे सकता है?

- Ans
- 1. समावेशी शिक्षक प्रशिक्षण और परिवीक्षण प्रथाओं को लागू करके
 - 2. पाठ्यचर्या परिवर्तनों को सख्ती से केवल शहरी क्षेत्रों तक सीमित करके
 - 3. नीतिगत निर्णयों को केवल शैक्षणिक प्रदर्शन पर केंद्रित करके
 - 4. स्थानीय विद्यालय प्रधानाचार्यों को पूरी तरह से उत्तरदायित्व सौंपकर

Question ID : 4410091681787
Option 1 ID : 4410096634523
Option 2 ID : 4410096634525
Option 3 ID : 4410096634524
Option 4 ID : 4410096634522

Q.10 किसी विद्यालय का एक प्रशासक NCF अनुशंसाओं के अनुरूप अंग्रेजी पाठ्यक्रम को अद्यतन करना चाहता है। कौन-सा उपागम, पारंपरिक व्याकरण-अनुवाद विधि (GTM) के स्थान पर सबसे उपयुक्त होगा?

- Ans
- 1. सार्थक वास्तविक-जीवन संदर्भों के भीतर कौशल-आधारित संवादात्मक भाषा शिक्षण को अपनाना
 - 2. अनन्य रूप से मातृभाषा से अंग्रेजी भाषा में अनुवाद करने के अभ्यास का विस्तार करना
 - 3. पूरी तरह से विद्यार्थी की मातृभाषा में किए गए साहित्यिक पाठ विश्लेषण पर जोर देना
 - 4. निर्धारित व्याकरणिक नियमों और संरचनाओं को रटकर याद करने पर फोकस में वृद्धि करना

Question ID : 4410091633197
Option 1 ID : 4410096450907
Option 2 ID : 4410096450908
Option 3 ID : 4410096450909
Option 4 ID : 4410096450906

Q.11 सामाजिक अध्ययन पाठ्यपुस्तक की मुख्य भूमिका क्या है?

- Ans
- 1. पूरी तरह से पाठ्येतर गतिविधियों पर फोकस करना
 - 2. पाठ्यक्रम आयोजक के रूप में कार्य करना और पाठ्यक्रम की एक अच्छी रूपरेखा प्रदान करना
 - 3. केवल मनोरंजन के स्रोत के रूप में कार्य करना
 - 4. कक्षा व्यवस्थापन में शिक्षक को प्रतिस्थापित करना

Question ID : 4410091637914
Option 1 ID : 4410096469220
Option 2 ID : 4410096469218
Option 3 ID : 4410096469221
Option 4 ID : 4410096469219

Q.12 शिक्षण-अधिगम संसाधन मूलतः _____ में सहायता करने के लिए डिज़ाइन किए गए हैं।

- Ans
- 1. पाठ्यचर्या विकास
 - 2. वित्तीय प्रशासन
 - 3. विषयवस्तु के स्पष्टीकरण
 - 4. विद्यार्थी पाठ्येतर गतिविधियों

Question ID : 4410091551047
Option 1 ID : 4410096126432
Option 2 ID : 4410096126431
Option 3 ID : 4410096126433
Option 4 ID : 4410096126434

Q.13 यदि एक शिक्षक NCF 2005 के अनुसार प्राथमिक वर्षों में पर्यावरण शिक्षा को सुदृढ़ करना चाहता है, तो उसे किस उपागम का अनुसरण करना चाहिए?

- Ans
- 1. वैज्ञानिक अवधारणाओं की उपेक्षा करके पृथक रूप से पर्यावरण अध्ययन पढ़ाना।
 - 2. पाठ्यक्रम से मुख्य पर्यावरणीय टॉपिक को हटाना और केवल विज्ञान पढ़ाना।
 - 3. पर्यावरण अध्ययन के एकीकृत उपागम को जारी रखना और सुदृढ़ करना।
 - 4. केवल सामाजिक अध्ययन पर ध्यान केंद्रित करना चूंकि इस चरण में सामाजिक विकास मुख्य लक्ष्य है।

Question ID : 4410091624725
Option 1 ID : 4410096417431
Option 2 ID : 4410096417434
Option 3 ID : 4410096417433
Option 4 ID : 4410096417432

Q.14 Which of the following is not a principle of teaching English?

- Ans
- 1. Selection and gradation
 - 2. Prioritize meaning over sound
 - 3. Controlled vocabulary
 - 4. Language patterns as habits

Question ID : 4410091548127
Option 1 ID : 4410096115220
Option 2 ID : 4410096115217
Option 3 ID : 4410096115219
Option 4 ID : 4410096115218

Q.15 निम्नलिखित में से क्या मुख्यतः एक लर्निंग मैनेजमेंट सिस्टम (LMS) है?

- Ans
- 1. प्रेज़ी (Prezi)
 - 2. ऑडेसिटी (Audacity)
 - 3. मूडल (Moodle)
 - 4. कैनवा (Canva)

Question ID : 4410091579707
Option 1 ID : 4410096240136
Option 2 ID : 4410096240135
Option 3 ID : 4410096240133
Option 4 ID : 4410096240134

Q.16 पाठ योजना (Lesson Planning) का जनक किसे माना जाता है?

- Ans
- 1. बी. एफ. स्किनर (B.F. Skinner)
 - 2. मारिया मॉटेसरी (Maria Montessori)
 - 3. जोहान फ्रेडरिक हर्बर्ट (Johann Friedrich Herbart)
 - 4. जॉन डेवी (John Dewey)

Question ID : 4410091687763
Option 1 ID : 4410096657841
Option 2 ID : 4410096657840
Option 3 ID : 4410096657839
Option 4 ID : 4410096657838

Q.17 एक शिक्षक पाठ के दौरान चार्ट और वास्तविक जीवन के उदाहरणों के साथ-साथ पाठ्यपुस्तक का भी उपयोग करता है। यह पद्धति पाठ योजना के किस सिद्धांत को दर्शाती है?

- Ans
- 1. TLM का लचीलापन और प्रभावी उपयोग
 - 2. केवल पाठ्यपुस्तक-केंद्रित अधिगम
 - 3. विषय-वस्तु का स्मरण
 - 4. शिक्षार्थी की सहभागिता से बचना

Question ID : 4410091690354
Option 1 ID : 4410096667695
Option 2 ID : 4410096667694
Option 3 ID : 4410096667696
Option 4 ID : 4410096667697

Q.18 'कार्य/खेल' विषय पर आधारित EVS पाठ के दौरान, विद्यार्थी अनाज, धागे और बोटल के ढक्कनों का उपयोग करके एक प्रकार की माला और ध्वनि उत्पन्न करने वाले यंत्र बनाते हैं। इस रचना कौशल का सबसे महत्वपूर्ण शैक्षिक लाभ क्या है?

- Ans
- 1. संप्रत्ययों की व्याख्या के लिए पूरी तरह से शिक्षकों पर निर्भर रहना
 - 2. समूह अधिगम और सहयोग के अवसरों को सीमित करना
 - 3. दुकानों से खरीदी गई सामग्रियों के लिए विद्यार्थियों के बीच प्रतिस्पर्धा को प्रोत्साहित करना
 - 4. स्पर्शी और दृश्य निर्धारित कार्य के माध्यम से स्मरण क्षमता में वर्धन करना

Question ID : 4410091633063
Option 1 ID : 4410096450373
Option 2 ID : 4410096450372
Option 3 ID : 4410096450371
Option 4 ID : 4410096450370

Q.19 एक प्रशिक्षु शिक्षक को अभी-अभी फीडबैक मिला है और अब वह अपनी पाठ योजना को संशोधित कर रहा है। सूक्ष्म शिक्षण प्रक्रिया के अनुसार, अगला चरण क्या है?

- Ans
- 1. किसी अन्य कौशल का अभ्यास करना
 - 2. सूक्ष्म शिक्षण चक्र को समाप्त करना
 - 3. संशोधित पाठ को दोबारा पढ़ाना
 - 4. पुनः फीडबैक देना

Question ID : 4410091604876
Option 1 ID : 4410096338669
Option 2 ID : 4410096338671
Option 3 ID : 4410096338670
Option 4 ID : 4410096338668

Q.20 निम्नलिखित में से किसे सामान्यतः प्राथमिक विद्यालय स्तर पर EVS पाठ्यचर्या में उप-विषय के रूप में शामिल किया जाता है?

- Ans 1. जल संसाधन और उनका दैनिक उपयोग
 2. औद्योगिक व्यापार और बाजार व्यवस्था
 3. शासन की संवैधानिक संरचना
 4. त्रिकोणमितीय अनुपात और पहचान

Question ID : 4410091631487
 Option 1 ID : 4410096444164
 Option 2 ID : 4410096444165
 Option 3 ID : 4410096444167
 Option 4 ID : 4410096444166

Section : Discipline5

Q.1 भाषा कक्षा में उपयोग किए जाने वाले चार्ट, फ्लैशकार्ड और ऑडियो रिकॉर्डिंग किसके उदाहरण हैं?

- Ans 1. प्रशासनिक उपकरण
 2. निर्धारण विकल्प
 3. अनुदेशात्मक शिक्षण सहायक सामग्री
 4. मनोरंजनात्मक सामग्री

Question ID : 4410091570236
 Option 1 ID : 4410096201937
 Option 2 ID : 4410096201940
 Option 3 ID : 4410096201938
 Option 4 ID : 4410096201939

Q.2 भारतीय विद्यालयों में जेंडर-रूढ़ वाली पाठ्यपुस्तकों के उपयोग का संभावित परिणाम क्या है?

- Ans 1. समीक्षात्मक चिंतन को बढ़ाना
 2. जेंडर के बीच समता को बढ़ावा देना
 3. बहिष्करण पैटर्न को स्थिर बनाए रखना
 4. बहुभाषी अधिगम को प्रोत्साहित करना

Question ID : 4410091635744
 Option 1 ID : 4410096460964
 Option 2 ID : 4410096460965
 Option 3 ID : 4410096460963
 Option 4 ID : 4410096460966

Q.3 कौन-सा कथन 'वैज्ञानिक सिद्धांत' और 'वैज्ञानिक नियम' के बीच के अंतर को व्यक्त करता है?

- Ans
- 1. सिद्धांत और नियम दोनों ही परिघटनाओं की व्याख्या करते हैं
 - 2. सिद्धांत और नियम दोनों ही इसका वर्णन करते हैं कि दुनिया में क्या घटित होता है
 - 3. सिद्धांत यह व्याख्या करता है कि कोई परिघटना क्यों होती है; नियम इसका वर्णन करता है कि क्या होता है
 - 4. नियम यह व्याख्या करता है कि कोई परिघटना क्यों होती है; सिद्धांत इसका वर्णन करता है कि क्या होता है

Question ID : 4410091670038
Option 1 ID : 4410096590990
Option 2 ID : 4410096590991
Option 3 ID : 4410096590988
Option 4 ID : 4410096590989

Q.4 भारतीय शैक्षिक मनोविज्ञान साहित्य के अनुसार, भाषा पर महारत हासिल करने के लिए सभी LSRW कौशलों का एकीकरण क्यों महत्वपूर्ण होता है?

- Ans
- 1. क्योंकि यह केवल लेखन गति में सुधार करता है।
 - 2. क्योंकि यह केवल पठन बोध पर केंद्रित होता है।
 - 3. क्योंकि यह श्रवण कौशल की उपेक्षा करता है।
 - 4. क्योंकि यह संतुलित संचार क्षमताओं का विकास करता है।

Question ID : 4410091639037
Option 1 ID : 4410096473722
Option 2 ID : 4410096473721
Option 3 ID : 4410096473724
Option 4 ID : 4410096473723

Q.5 जब कोई शिक्षक गणित की कोई नई अवधारणा शुरू करता है, तो वह एक गैर-नियमित और चुनौतीपूर्ण पहली से शुरुआत करता है। यह रणनीति विद्यार्थियों को निम्नलिखित में से किसमें सर्वोत्तम रूप से सक्रिय करती है।

- Ans
- 1. पूर्व ज्ञान सहलग्नता (Prior knowledge linkage)
 - 2. वैज्ञानिक पद्धति कठोरता (Scientific method rigor)
 - 3. प्रक्रियात्मक स्मृति (Procedural memory)
 - 4. आनुशासनिक निर्धारण (Disciplinary fixation)

Question ID : 4410091551418
Option 1 ID : 4410096128042
Option 2 ID : 4410096128040
Option 3 ID : 4410096128039
Option 4 ID : 4410096128041

Q.6 स्नातक स्तर की विज्ञान शिक्षा में वैज्ञानिक पृच्छा की प्रकृति को कौन-सा उपागम सर्वोत्तम रूप से दर्शाता है?

- Ans
- 1. पुनरावर्ती परिकल्पना (iterative hypothesis) परीक्षण और सहपाठी वैधता पर बल देना
 - 2. विज्ञान में केवल ऐतिहासिक परिप्रेक्ष्य (historical perspectives) पर ध्यान केंद्रित करना
 - 3. सिद्धांत के बिना केवल डेटा संग्रह पर निर्भर रहना
 - 4. तथ्यात्मक सूचना को रटकर याद करने को प्राथमिकता देना

Question ID : 4410091626522
Option 1 ID : 4410096424461
Option 2 ID : 4410096424462
Option 3 ID : 4410096424463
Option 4 ID : 4410096424460

Q.7 निम्नलिखित में से कौन-सा विकल्प, पाठ्यपुस्तकों के माध्यम से विद्यालयों में जेंडर पुनरुत्पादन (gender reproduction) को सर्वोत्तम रूप से दर्शाता है?

- Ans
- 1. कक्षा की सभी विषयवस्तु में एक समान जेंडर-तटस्थ (gender-neutral) भाषा का प्रयोग करना
 - 2. लड़कों और लड़कियों को विविध सार्थक भूमिकाओं में दर्शाने वाली संतुलित कहानियों का उपयोग करना
 - 3. जेंडर संबंधी विचारों पर गहन पूछताछ और अनुचिंतन को प्रोत्साहित करना
 - 4. केवल लड़कों को लीडर के रूप में और लड़कियों को सीमित घरेलू पदों पर दर्शाना

Question ID : 4410091555744
Option 1 ID : 4410096145531
Option 2 ID : 4410096145529
Option 3 ID : 4410096145532
Option 4 ID : 4410096145530

Q.8 कक्षा में आयोजित एक गतिविधि में, विद्यार्थियों को -3, 0, 4, -1 संख्याओं को आरोही क्रम में व्यवस्थित करने के लिए कहा जाता है। इस गतिविधि के माध्यम से किस अवधारणा का अभ्यास कराया जा रहा है?

- Ans
- 1. परिमेय संख्याओं का गुणन
 - 2. पूर्णांकों का क्रम
 - 3. बड़ी संख्या का अनुमान
 - 4. दहाई और इकाई का पुनर्समूहीकरण

Question ID : 4410091619076
Option 1 ID : 4410096395177
Option 2 ID : 4410096395176
Option 3 ID : 4410096395179
Option 4 ID : 4410096395178

Q.9 निम्नलिखित में से कौन-सा, कक्षा में विशेष आवश्यकताओं वाले बच्चे की पहचान करने में पहला कदम है?

- Ans
- 1. बच्चे के व्यवहार और अधिगम प्रतिरूपों का अवलोकन करना
 - 2. एक व्यक्तिगत शिक्षा योजना विकसित करना
 - 3. बच्चे को विशेषज्ञ के पास भेजना
 - 4. माता-पिता या अभिभावकों से परामर्श करना

Question ID : 4410091624408
Option 1 ID : 4410096416179
Option 2 ID : 4410096416182
Option 3 ID : 4410096416181
Option 4 ID : 4410096416180

Q.10 कौन-सा शैक्षिक स्थानन मॉडल, विकलांग बालकों को अलग-अलग कक्षाओं में न्यूनतम सहपाठी संपर्क के साथ रखने को सर्वोत्तम रूप से निरूपित करता है?

- Ans
- 1. विभेदित सहायता और सेवाओं के साथ समावेशन
 - 2. विशेषीकृत शिक्षण व्यवस्थाओं में एकीकरण
 - 3. प्रतिबंधात्मक शिक्षण वातावरण के माध्यम से पृथक्करण
 - 4. सीमित पाठ्यक्रम संशोधन के साथ मुख्यधारा में शामिल करना

Question ID : 4410091550570
Option 1 ID : 4410096124742
Option 2 ID : 4410096124741
Option 3 ID : 4410096124740
Option 4 ID : 4410096124739

Q.11 एक शिक्षक एक भाषा ऐप को एकीकृत करता है जिसमें टेक्स्ट और वीडियो दोनों का उपयोग करके गेमिफाइड वाचन और श्रवण के कार्य हैं। यह परिदृश्य किस शिक्षण सहायता श्रेणी को सर्वोत्तम रूप से निरूपित करता है?

- Ans
- 1. दृश्य साधन (Visual aids)
 - 2. अन्योन्यक्रियात्मक साधन (Interactive aids)
 - 3. श्रव्य-दृश्य साधन (Audio-visual aids)
 - 4. श्रवणात्मक साधन (Auditory aids)

Question ID : 4410091618952
Option 1 ID : 4410096394680
Option 2 ID : 4410096394681
Option 3 ID : 4410096394682
Option 4 ID : 4410096394683

Q.12 किस समुच्चय में शून्य शामिल है?

- Ans 1. पूर्णांक
 2. अभाज्य संख्याएं
 3. प्राकृत संख्याएं
 4. भाज्य संख्याएं

Question ID : 4410091616538
 Option 1 ID : 4410096385067
 Option 2 ID : 4410096385068
 Option 3 ID : 4410096385066
 Option 4 ID : 4410096385069

Q.13 विद्यालयों का एक समूह वृक्षारोपण अभियान में सहयोग करता है और इसके प्रभाव का विश्लेषण करता है। मिशन लाइफ (Mission LiFE) के लिए इको-क्लबों के कौन-से उद्देश्य पूर्ण हो रहे हैं?

- Ans 1. विद्यालय के कार्यक्रमों को कम करना और सहभागिता को सीमित करना
 2. जमीनी स्तर की पहलों को हतोत्साहित करना और उनके प्रभाव की उपेक्षा करना
 3. सहयोग को बढ़ावा देना और वैश्विक प्रभाव को मापना
 4. भाषागत बाधाओं को समाप्त करना और खेलों को बढ़ावा देना

Question ID : 4410091609617
 Option 1 ID : 4410096357383
 Option 2 ID : 4410096357382
 Option 3 ID : 4410096357380
 Option 4 ID : 4410096357381

Q.14 भाषा नैतिकता पर एक समूह चर्चा के दौरान, एक प्रशिक्षक ने देखा कि विद्यार्थी अपने तर्कों में निरंतर खुले विचारों और निष्पक्षता को प्रदर्शित करते हैं। ब्लूम के वर्गीकरण (Bloom's taxonomy) के अनुसार, यह व्यवहार किस क्षेत्र और स्तर को सर्वाधिक दर्शाता है?

- Ans 1. प्रतिक्रिया स्तर पर भावपरक क्षेत्र
 2. मूल्यांकन स्तर पर संज्ञानात्मक क्षेत्र
 3. विशिष्टता स्तर पर भावपरक क्षेत्र
 4. यथार्थता स्तर पर मनःप्रेरक क्षेत्र

Question ID : 4410091633454
 Option 1 ID : 4410096451937
 Option 2 ID : 4410096451934
 Option 3 ID : 4410096451935
 Option 4 ID : 4410096451936

Q.15 अक्षमता आकलन, शैक्षणिक नियोजन में किस प्रकार योगदान देता है?

- Ans
- 1. यह विशेष विद्यालयों में प्रवेश सुनिश्चित करता है।
 - 2. यह अक्षमताओं के विषय में सामान्य जानकारी प्रदान करता है।
 - 3. यह सहवर्तनीय शैक्षणिक योजनाओं के लिए अक्षमता के प्रकार और कोटि की पहचान करने में सहायता करता है।
 - 4. यह अक्षमताओं के प्रकार को वर्गीकृत करता है।

Question ID : 4410091640067
Option 1 ID : 4410096477468
Option 2 ID : 4410096477466
Option 3 ID : 4410096477467
Option 4 ID : 4410096477469

Q.16 'जेंडर संलक्षण (gendered)' पद का क्या तात्पर्य है?

- Ans
- 1. जब कोई संस्कृति जेंडर संबंधी भूमिकाओं का प्रवर्तन करती है।
 - 2. जब कोई संप्रतीक, पुंजातीय या स्त्रैण शीलगुणों या जेंडर विभेद के प्रतिरूप को प्रदर्शित करता है।
 - 3. जब कोई व्यक्ति सामाजिक जेंडर संबंधी मानदंडों का सख्ती से पालन करता है।
 - 4. जब कोई व्यक्ति जैविक रूप से पुरुष या स्त्री होता है।

Question ID : 4410091640314
Option 1 ID : 4410096478457
Option 2 ID : 4410096478454
Option 3 ID : 4410096478455
Option 4 ID : 4410096478456

Q.17 मान लीजिए कि एक विद्यालय अनुसूचित जनजातियों और दिव्यांग बच्चों को शामिल करने में संघर्ष कर रहा है। समावेशी विद्यालयों के सूचकांक का उपयोग करते हुए विद्यालय को कौन-सा संयुक्त उपागम अपनाना चाहिए?

- Ans
- 1. सहायक कर्मचारियों की संख्या कम करते हुए कक्षा में विद्यार्थियों की संख्या में वृद्धि करें।
 - 2. केवल शैक्षणिक प्रदर्शन और परीक्षा अंकों में सुधार पर फोकस करें।
 - 3. बाधाओं की पहचान करें और उन्हें दूर करें तथा सहभागिता के लिए नीतियों का पुनर्गठन करें।
 - 4. दिव्यांग या विशेष आवश्यकता वाले विद्यार्थियों को अन्य विद्यार्थियों से अलग करें।

Question ID : 4410091606727
Option 1 ID : 4410096345893
Option 2 ID : 4410096345895
Option 3 ID : 4410096345892
Option 4 ID : 4410096345894

Q.18 कौन-सी मनोविनोदात्मक गणितीय गतिविधि विद्यार्थियों को मौलिक गणितीय विचार या डिजाइन बनाने के लिए प्रत्यक्ष रूप से प्रोत्साहित करती है?

- Ans 1. गणितीय पैटर्न अभिकल्पित करना
 2. गणितीय पहेलियाँ हल करना
 3. गणित प्रतियोगिताओं में भाग लेना
 4. गणित की मनोरंजक पुस्तकों का पठन

Question ID : 4410091662551
 Option 1 ID : 4410096563521
 Option 2 ID : 4410096563522
 Option 3 ID : 4410096563524
 Option 4 ID : 4410096563523

Q.19 जब कोई इको-क्लब सिंगल यूज़ प्लास्टिक को कम करने के लिए अभियान चलाता है, तो वह मुख्य रूप से किसे बढ़ावा देता है?

- Ans 1. सह-पाठ्यचर्या संलग्नता के माध्यम से पाठ्यक्रम संवर्धन
 2. सूचना प्रसार के माध्यम से सामुदायिक जागरूकता
 3. सक्रिय नागरिकत्व और सतत व्यवहार संबंधी आदर्श
 4. सैद्धांतिक ज्ञान के माध्यम से पर्यावरणीय साक्षरता

Question ID : 4410091550558
 Option 1 ID : 4410096124694
 Option 2 ID : 4410096124693
 Option 3 ID : 4410096124692
 Option 4 ID : 4410096124691

Q.20 भारत में सरकार की एक पहल के अंतर्गत सभी पृष्ठभूमियों के बच्चों का नामांकन अनिवार्य है, लेकिन अल्पसंख्यक भाषाओं में अधिगम सामग्री उपलब्ध कराने या विविध शिक्षार्थियों के लिए शिक्षण विधियों को अनुकूलित करने में यह विफल रहती है। इस परिदृश्य में मुख्यतः किस प्रकार का अपवर्जन मौजूद है?

- Ans 1. पाठ्यक्रमिक अपवर्जन
 2. आर्थिक अपवर्जन
 3. सामाजिक अपवर्जन
 4. भौतिक अपवर्जन

Question ID : 4410091683291
 Option 1 ID : 4410096640125
 Option 2 ID : 4410096640123
 Option 3 ID : 4410096640124
 Option 4 ID : 4410096640122