



Adda247

# Test Prime

**ALL EXAMS, ONE SUBSCRIPTION**



**1,00,000+**  
Mock Tests



**Personalised  
Report Card**



**Unlimited  
Re-Attempt**



**600+**  
Exam Covered



**25,000+** Previous  
Year Papers



**500%**  
Refund



**ATTEMPT FREE MOCK NOW**

Q.3 अंग्रेजी वर्णमाला क्रम के आधार पर दी गई श्रृंखला में ? के स्थान पर क्या आना चाहिए?  
XLEY GUNH PDWQ YMFZ ?

- Ans  1. HVOI  
 2. HUYT  
 3. HVCD  
 4. HIOV

Question ID : 4410091618929  
Option 1 ID : 4410096394588  
Option 2 ID : 4410096394590  
Option 3 ID : 4410096394591  
Option 4 ID : 4410096394589

Q.4 दी गई श्रृंखला में प्रश्न-चिन्ह (?) के स्थान पर क्या आना चाहिए?  
57 62 72 89 115 ?

- Ans  1. 125  
 2. 151  
 3. 152  
 4. 149

Question ID : 441009216189  
Option 1 ID : 441009848798  
Option 2 ID : 441009848796  
Option 3 ID : 441009848795  
Option 4 ID : 441009848797

Q.5 निम्नलिखित अक्षर श्रृंखला का संदर्भ लीजिए और नीचे दिए गए प्रश्न का उत्तर दीजिए। (गणना केवल बाएं से दाएं की जानी है।)  
(बाएं) TPKAGNSRKBILDFOX YIMUV (दाएं)  
ऐसे कितने स्वर हैं, जिनमें से प्रत्येक के ठीक पहले एक व्यंजन और ठीक बाद में एक स्वर आता है?

- Ans  1. एक भी नहीं  
 2. तीन  
 3. दो  
 4. एक

Question ID : 441009770870  
Option 1 ID : 4410093037476  
Option 2 ID : 4410093037475  
Option 3 ID : 4410093037474  
Option 4 ID : 4410093037473

Q.6 उत्तर की ओर अभिमुख होकर बैठे व्यक्तियों की एक पंक्ति में, निक बाएं छोर से 33वें स्थान पर है। मकु बाएं छोर से 44वें स्थान पर है। निक और प्रीत के ठीक बीच मकु बैठी है। यदि प्रीत पंक्ति के दाएँ छोर से 9वें स्थान पर बैठी है, तो पंक्ति में कितने व्यक्ति बैठे हैं?

- Ans
- 1. 64
  - 2. 63
  - 3. 61
  - 4. 62

Question ID : 4410091614395  
Option 1 ID : 4410096376400  
Option 2 ID : 4410096376399  
Option 3 ID : 4410096376397  
Option 4 ID : 4410096376398

Q.7 शब्द CYLINDER में प्रत्येक स्वर को अंग्रेजी वर्णमाला क्रम में उसके ठीक बाद वाले अक्षर से बदल दिया जाता है और प्रत्येक व्यंजन को अंग्रेजी वर्णमाला क्रम में उससे पहले वाले अक्षर को छोड़कर अगले अक्षर से बदल दिया जाता है। इस प्रकार बने अक्षरों के नए समूह में कितने अक्षर ठीक दो बार दिखाई देंगे?

- Ans
- 1. दो
  - 2. एक भी नहीं
  - 3. तीन
  - 4. एक

Question ID : 441009216468  
Option 1 ID : 441009849912  
Option 2 ID : 441009849913  
Option 3 ID : 441009849914  
Option 4 ID : 441009849911

Q.8 निम्नलिखित अक्षर और प्रतीक श्रृंखला का संदर्भ लीजिए और प्रश्न का उत्तर दीजिए। गिनती केवल बाएँ से दाएँ की जानी है।  
(बाएँ) \$ J \* X @ B @ X Z Q @ G H @ U £ Z G % A \* (दाएँ)  
ऐसे कितने प्रतीक हैं, जिनमें से प्रत्येक के ठीक पहले एक अक्षर और ठीक बाद में एक प्रतीक है?

- Ans
- 1. 1
  - 2. 0
  - 3. 2
  - 4. 3

Question ID : 441009794572  
Option 1 ID : 4410093132287  
Option 2 ID : 4410093132289  
Option 3 ID : 4410093132288  
Option 4 ID : 4410093132290

Q.9 यदि 'P' का अर्थ '+' है, 'Q' का अर्थ 'x' है, 'R' का अर्थ '+' है और 'S' का अर्थ '-' है, तो निम्नलिखित समीकरण में प्रश्न-चिह्न '?' के स्थान पर क्या आएगा?

$$175 P 25 R 11 Q 15 S 90 = ?$$

- Ans
- 1. 80
  - 2. 81
  - 3. 83
  - 4. 82

Question ID : 4410091528044

Option 1 ID : 4410096035373

Option 2 ID : 4410096035374

Option 3 ID : 4410096035376

Option 4 ID : 4410096035375

Q.10 यदि दर्पण को दिए गए चित्र के अनुसार MN पर रखा जाए, तो दर्पण में निर्मित सही प्रतिबिंब का चयन कीजिए।



Ans

- 1.
- 2.
- 3.
- 4.

Question ID : 4410091614493

Option 1 ID : 4410096376791

Option 2 ID : 4410096376792

Option 3 ID : 4410096376789

Option 4 ID : 4410096376790

Q.11 शब्द BURDOCK के प्रत्येक स्वर को अंग्रेजी वर्णमाला क्रम में उसके ठीक बाद वाले अक्षर से बदल दिया जाता और प्रत्येक व्यंजन को अंग्रेजी वर्णमाला क्रम में उसके ठीक पहले वाले अक्षर से बदल दिया जाता है। इस प्रकार बने अक्षरों के समूह में कितने अक्षर ठीक दो बार आएंगे?

- Ans
- 1. एक
  - 2. तीन
  - 3. एक भी नहीं
  - 4. दो

Question ID : 441009788060  
Option 1 ID : 4410093106240  
Option 2 ID : 4410093106242  
Option 3 ID : 4410093106239  
Option 4 ID : 4410093106241

Q.12 नीचे संख्याओं के दो समुच्चय दिए गए हैं। संख्याओं के प्रत्येक समुच्चय में, पहली संख्या पर निश्चित गणितीय संक्रियाएं करके दूसरी संख्या प्राप्त की गई है। इसी प्रकार, दूसरी संख्या पर निश्चित गणितीय संक्रियाएं करके तीसरी संख्या प्राप्त की गई है, और इसी प्रकार आगे की भी संक्रियाएं प्राप्त की गई हैं। दिए गए विकल्पों में से कौन-सा विकल्प, उन्हीं संक्रियाओं का अनुसरण करता है, जो दिए गए समुच्चयों में अनुसरण की गई है?

(नोट: संख्याओं को उनके घटक अंकों में तोड़ें बिना, पूर्ण संख्याओं पर संक्रियाएं की जानी चाहिए। उदाहरण के लिए 13 लीजिए, 13 पर संक्रियाएं, जैसे कि 13 में जोड़ना/घटाना/गुणा करना आदि, की जा सकती है। 13 को 1 और 3 में तोड़ना तथा फिर 1 और 3 पर गणितीय संक्रियाएं करने की अनुमति नहीं है।)

31 - 37 - 45 - 180  
40 - 46 - 54 - 216

- Ans
- 1. 14 - 21 - 24 - 96
  - 2. 4 - 10 - 15 - 60
  - 3. 30 - 36 - 44 - 176
  - 4. 13 - 18 - 23 - 115

Question ID : 441009528656  
Option 1 ID : 4410092070029  
Option 2 ID : 4410092070031  
Option 3 ID : 4410092070028  
Option 4 ID : 4410092070030

Q.13 सात व्यक्ति, B, U, C, K, E, T और S, एक गोल मेज के परितः केंद्र की ओर अभिमुख होकर बैठे हैं। K के दाईं ओर से गिनने पर K और C के बीच केवल चार व्यक्ति बैठे हैं। K, B के बाईं ओर तीसरे स्थान पर बैठा है। U, S के बाईं ओर तीसरे स्थान पर बैठा है। C और B दोनों का निकटतम पड़ोसी E है। T के दाईं ओर से गिनने पर T और E के बीच कितने व्यक्ति बैठे हैं?

- Ans
- 1. तीन
  - 2. दो
  - 3. एक
  - 4. चार

Question ID : 4410091518800  
Option 1 ID : 4410095998476  
Option 2 ID : 4410095998475  
Option 3 ID : 4410095998474  
Option 4 ID : 4410095998477

Q.14 अंग्रेजी वर्णमाला क्रम पर आधारित, निम्नलिखित चार अक्षर-समूहों में से तीन एक निश्चित तरीके से एकसमान हैं और इस प्रकार एक ग्रुप बनाते हैं। कौन-सा अक्षर-समूह उस ग्रुप से संबंधित नहीं है?  
(नोट: असंगत अक्षर-समूह, व्यंजनों/स्वरों की संख्या या उनकी स्थिति पर आधारित नहीं है।)

- Ans
- 1. AEB
  - 2. UZV
  - 3. PTQ
  - 4. KOL

Question ID : 441009764840  
Option 1 ID : 4410093013356  
Option 2 ID : 4410093013353  
Option 3 ID : 4410093013355  
Option 4 ID : 4410093013354

Q.15 निम्नलिखित त्रिकों में, प्रत्येक अक्षर-समूह एक निश्चित तर्क का अनुसरण करते हुए, अगले समूह से संबंधित है। दिए गए विकल्पों में से उस विकल्प का चयन कीजिए जो समान तर्क का अनुसरण करता हो।  
KIND - IKND - DIKN  
GLUE - LGUE - ELGU

- Ans
- 1. MAPS - AMPS - SAMP
  - 2. OPEN - POEN - PENO
  - 3. EXIT - EIXT - TIXE
  - 4. TRUE - RTUE - ERUT

Question ID : 441009767183  
Option 1 ID : 4410093022725  
Option 2 ID : 4410093022728  
Option 3 ID : 4410093022726  
Option 4 ID : 4410093022727

Q.16 सात बक्से F, I, L, T, E, R और S एक के ऊपर एक रखे गए हैं, लेकिन जरूरी नहीं है कि इसी क्रम में रखे गए हों। F और S के बीच केवल दो बक्से रखे गए हैं। E के ऊपर केवल R रखा गया है। S के नीचे कोई बक्सा नहीं रखा गया है। को T के नीचे किसी स्थान पर लेकिन L के ऊपर किसी स्थान पर रखा गया है। L के ऊपर तीसरा बक्सा कौन-सा रखा गया है?

- Ans
- 1. E
  - 2. S
  - 3. F
  - 4. T

Question ID : 4410091518834  
Option 1 ID : 4410095998616  
Option 2 ID : 4410095998617  
Option 3 ID : 4410095998614  
Option 4 ID : 4410095998615

Q.17 निम्नलिखित समीकरण में '+' और 'x' को आपस में बदल देने पर तथा '-' और '÷' को आपस में बदल देने पर '?' के स्थान पर क्या आएगा?

$$7 + 4 \div 24 - 6 \times 13 = ?$$

Ans  1. 37

2. 40

3. 43

4. 46

Question ID : 441009554424

Option 1 ID : 4410092173010

Option 2 ID : 4410092173011

Option 3 ID : 4410092173012

Option 4 ID : 4410092173013

Q.18 अंग्रेजी वर्णमाला क्रम के आधार पर, निम्नलिखित चार अक्षर-समूहों में से तीन एक निश्चित तरीके से एकसमान हैं और इस प्रकार वे एक ग्रुप बनाते हैं। कौन-सा अक्षर-समूह उस ग्रुप से संबंधित नहीं है?  
(नोट: असंगत अक्षर-समूह, उसमें व्यंजनों/स्वरों की संख्या या उनकी स्थिति पर आधारित नहीं है।)

Ans  1. PRM

2. HJF

3. CEA

4. LNJ

Question ID : 441009782234

Option 1 ID : 4410093082942

Option 2 ID : 4410093082940

Option 3 ID : 4410093082939

Option 4 ID : 4410093082941

Q.19 एक निश्चित कूट भाषा में, 'BONE' को '2618' के रूप में कूटबद्ध किया जाता है और 'BONG' को '3268' के रूप में कूटबद्ध किया जाता है। दी गई कूट भाषा में 'G' के लिए कूट क्या है?

Ans  1. 1

2. 3

3. 6

4. 2

Question ID : 4410091614546

Option 1 ID : 4410096376998

Option 2 ID : 4410096376997

Option 3 ID : 4410096377000

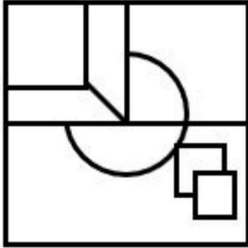
Option 4 ID : 4410096376999

Q.20 उस विकल्प का चयन कीजिए जिसमें दी गई आकृति अंतर्निहित है (घूर्णन की अनुमति नहीं है)।

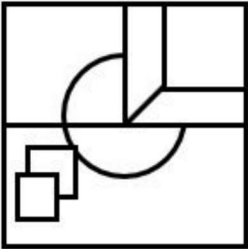


Ans

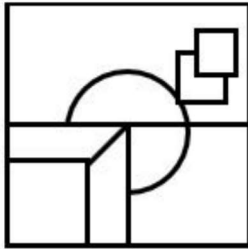
✗ 1.



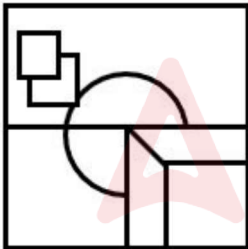
✗ 2.



✓ 3.



✗ 4.



Question ID : 441009906458  
 Option 1 ID : 4410093579641  
 Option 2 ID : 4410093579642  
 Option 3 ID : 4410093579643  
 Option 4 ID : 4410093579640

Section : General Awareness

Q.1 भारत के संविधान के अनुसार, उच्चतम न्यायालय के न्यायाधीश की नियुक्ति कैसे होती है और न्यायाधीश किस आयु तक पद पर बने रह सकते हैं?

- Ans
- ✓ 1. राष्ट्रपति द्वारा नियुक्त; 65 वर्ष की आयु तक पद पर बने रहते हैं
  - ✗ 2. संसद के दोनों सदनों द्वारा निर्वाचित; 70 वर्ष की आयु तक पद धारण करते हैं
  - ✗ 3. प्रधानमंत्री द्वारा नियुक्त; 62 वर्ष की आयु तक पद पर बने रहते हैं
  - ✗ 4. भारत के मुख्य न्यायाधीश द्वारा नियुक्त; 5 वर्ष के निश्चित कार्यकाल के लिए पद धारण करते हैं

Question ID : 441009672163  
Option 1 ID : 4410092642747  
Option 2 ID : 4410092642749  
Option 3 ID : 4410092642746  
Option 4 ID : 4410092642748

Q.2 भारत गणराज्य की सरकार और अंतर्राष्ट्रीय बिग कैट अलायंस (IBCA) ने नई दिल्ली में मुख्यालय समझौते पर कब हस्ताक्षर किए?

- Ans
- ✗ 1. 2 जनवरी, 2025
  - ✗ 2. 5 मई, 2025
  - ✗ 3. 17 दिसंबर, 2024
  - ✓ 4. 17 अप्रैल, 2025

Question ID : 441009321129  
Option 1 ID : 4410091250778  
Option 2 ID : 4410091250780  
Option 3 ID : 4410091250777  
Option 4 ID : 4410091250779

Q.3 निम्नलिखित में से किस देश को 2027 FIFA महिला विश्व कप की मेजबानी के लिए चुना गया है?

- Ans
- ✓ 1. ब्राज़ील
  - ✗ 2. जापान
  - ✗ 3. स्पेन
  - ✗ 4. दक्षिण कोरिया

Question ID : 441009283020  
Option 1 ID : 4410091099237  
Option 2 ID : 4410091099236  
Option 3 ID : 4410091099234  
Option 4 ID : 4410091099235

Q.4 भारत ने जनवरी 2025 में तीन प्रमुख नौसैनिक पोतों - INS सूरत, INS नीलगिरी और INS वाघशीर का जलावतरण कहाँ किया?

- Ans
- 1. गार्डन रीच, कोलकाता
  - 2. नौसेना डॉकयार्ड, मुंबई
  - 3. कोलकाता शिपयार्ड, कोलकाता
  - 4. कोचीन शिपयार्ड, कोचीन

Question ID : 441009207022  
Option 1 ID : 441009814037  
Option 2 ID : 441009814036  
Option 3 ID : 441009814035  
Option 4 ID : 441009814038

Q.5 राष्ट्रीय स्तर पर लोक अदालतों के पर्यवेक्षण हेतु राष्ट्रीय विधिक सेवा प्राधिकरण (NALSA) का गठन किस सांविधिक प्रावधान के तहत किया गया था?

- Ans
- 1. माध्यस्थम् और सुलह अधिनियम, 1996
  - 2. भारतीय दंड संहिता, 1860
  - 3. सिविल प्रक्रिया संहिता, 1908
  - 4. विधिक सेवा प्राधिकरण अधिनियम, 1987

Question ID : 44100987351  
Option 1 ID : 441009347212  
Option 2 ID : 441009347213  
Option 3 ID : 441009347214  
Option 4 ID : 441009347211

Q.6 स्वतंत्रता के समय भारत की राष्ट्रीय आय में कृषि का योगदान कितना था?

- Ans
- 1. लगभग 80 प्रतिशत
  - 2. लगभग 50 प्रतिशत
  - 3. लगभग 60 प्रतिशत
  - 4. लगभग 70 प्रतिशत

Question ID : 441009510540  
Option 1 ID : 4410091997321  
Option 2 ID : 4410091997318  
Option 3 ID : 4410091997319  
Option 4 ID : 4410091997320

Q.7 विजयनगर साम्राज्य के लिए छोड़े के व्यापार और अन्य विलासिता की वस्तुओं का केंद्र कौन-सा बंदरगाह था?

- Ans
- 1. गोवा बंदरगाह
  - 2. सूरत बंदरगाह
  - 3. मालाबार बंदरगाह
  - 4. मछलीपट्टनम बंदरगाह

Question ID : 441009205158  
Option 1 ID : 441009806855  
Option 2 ID : 441009806854  
Option 3 ID : 441009806853  
Option 4 ID : 441009806856

Q.8 फरवरी 2025 में राजस्थान में भारत और मिस्र द्वारा आयोजित संयुक्त विशेष बल अभ्यास का आधिकारिक नाम क्या है?

- Ans
- 1. अभ्यास डेजर्ट वैरियर (Exercise Desert Warrior)
  - 2. अभ्यास डेजर्ट नाइट (Exercise Desert Knight)
  - 3. अभ्यास साइक्लोन-III (Exercise CYCLONE-III)
  - 4. अभ्यास कावेरी (Exercise Kaveri)

Question ID : 441009240493  
Option 1 ID : 441009940120  
Option 2 ID : 441009940118  
Option 3 ID : 441009940121  
Option 4 ID : 441009940119

Q.9 बाबर किस आयु में फरगना की गद्दी पर बैठा?

- Ans
- 1. 12 वर्ष
  - 2. 14 वर्ष
  - 3. 10 वर्ष
  - 4. 16 वर्ष

Question ID : 441009205152  
Option 1 ID : 441009806830  
Option 2 ID : 441009806831  
Option 3 ID : 441009806829  
Option 4 ID : 441009806832

Q.10 प्राक्कलन समिति की सिफारिशें मुख्यतः निम्नलिखित में से किससे संबंधित हैं?

- Ans
- 1. विभागीय संगठन और कार्य में सुधार, व्यय में सुनिश्चित अर्थव्यवस्था एवं प्राक्कलन प्रस्तुति का मार्गदर्शन
  - 2. संसदीय प्रक्रिया के लिए नियम प्रारूपण एवं विधायी प्राथमिकताओं पर निर्णयन
  - 3. सरकारी खातों का लेखा-परीक्षण एवं सार्वजनिक उपक्रमों में वित्तीय अनियमितताओं का सत्यापन
  - 4. वित्तीय विवरण का निर्माण, विभागीय नीतियों की समीक्षा एवं निधि आवंटन विधियों में सुधारों की सिफारिश

Question ID : 441009672201  
Option 1 ID : 4410092642899  
Option 2 ID : 4410092642898  
Option 3 ID : 4410092642900  
Option 4 ID : 4410092642901

Q.11 19वीं सदी के किस भारतीय मंदिर ने बोल्ट रेखाओं और सामाजिक-धार्मिक विषयों के अभिलक्षणों वाली एक विशिष्ट चित्रकला शैली को प्रेरित किया, जिसका नाम बाद में इसके स्थान के नाम पर रखा गया?

- Ans
- 1. मीनाक्षी मंदिर
  - 2. बृहदीश्वर मंदिर
  - 3. कालीघाट काली मंदिर
  - 4. जगन्नाथ मंदिर

Question ID : 441009749227  
Option 1 ID : 4410092950746  
Option 2 ID : 4410092950749  
Option 3 ID : 4410092950748  
Option 4 ID : 4410092950747

Q.12 भारत के किस राज्य में प्रसिद्ध 'सोडल मेला (Sodal Mela)' आयोजित किया जाता है?

- Ans
- 1. ओडिशा
  - 2. बिहार
  - 3. पंजाब
  - 4. गोवा

Question ID : 441009607692  
Option 1 ID : 4410092385888  
Option 2 ID : 4410092385885  
Option 3 ID : 4410092385886  
Option 4 ID : 4410092385887

Q.13 निम्नलिखित में से कौन-सा, 'PM गति शक्ति राष्ट्रीय मास्टर प्लान' के सात-इंजन पद्धति में शामिल नहीं है?

- Ans
- 1. रेलवे
  - 2. हवाई अड्डे
  - 3. सड़कें
  - 4. अस्पताल

Question ID : 441009637835  
Option 1 ID : 4410092505484  
Option 2 ID : 4410092505485  
Option 3 ID : 4410092505483  
Option 4 ID : 4410092505486

Q.14 किसी कमरे में 60 W के विद्युत बल्ब को जलाकर कौन-सी भौतिक राशि यूनिट द्वारा मापी जाती है?

- Ans
- 1. विद्युत धारा
  - 2. वोल्टता
  - 3. ऊर्जा
  - 4. शक्ति

Question ID : 441009615750  
Option 1 ID : 4410092417172  
Option 2 ID : 4410092417171  
Option 3 ID : 4410092417170  
Option 4 ID : 4410092417169

Q.15 देबेन्द्रनाथ टैगोर ने देश के लोगों के बीच शास्त्रों और वेदांतों के ज्ञान और सत्य को प्रसारित करने के लिए \_\_\_\_\_ की स्थापना की।

- Ans
- 1. भारत माता सभा
  - 2. यंग बंगाल आंदोलन
  - 3. प्रार्थना समाज
  - 4. तत्वबोधिनी सभा

Question ID : 441009646827  
Option 1 ID : 4410092541424  
Option 2 ID : 4410092541426  
Option 3 ID : 4410092541423  
Option 4 ID : 4410092541425

Q.16 निम्नलिखित में से कौन-सा आनुवंशिक विकार का उदाहरण नहीं है?

- Ans
- 1. पेशी दुष्पोषण
  - 2. हीमोफीलिया
  - 3. थेलासीमिया
  - 4. यक्ष्मा

Question ID : 441009369739  
Option 1 ID : 4410091444928  
Option 2 ID : 4410091444925  
Option 3 ID : 4410091444926  
Option 4 ID : 4410091444927

Q.17 किस भारतीय राज्य के सभी 38 जिलों में जिला जलवायु परिवर्तन मिशन स्थापित किए गए हैं?

- Ans
- 1. तमिलनाडु
  - 2. तेलंगाना
  - 3. कर्नाटक
  - 4. केरल

Question ID : 441009377221  
Option 1 ID : 4410091474284  
Option 2 ID : 4410091474283  
Option 3 ID : 4410091474282  
Option 4 ID : 4410091474285

Q.18 निम्नलिखित में से कौन-सा विकल्प स्वतंत्रता की पूर्व संध्या पर भारत की जनसांख्यिकीय स्थिति का सबसे अच्छा वर्णन करता है?

- Ans
- 1. निम्न जीवन प्रत्याशा और उच्च शिशु मृत्यु दर
  - 2. उच्च जीवन प्रत्याशा और निम्न मृत्यु दर
  - 3. उच्च साक्षरता और निम्न प्रजनन दर
  - 4. संतुलित जनसंख्या वृद्धि

Question ID : 441009510658  
Option 1 ID : 4410091997791  
Option 2 ID : 4410091997790  
Option 3 ID : 4410091997792  
Option 4 ID : 4410091997793

Q.19 भारत के किस राज्य की भूमि सीमा और तटीय सीमा दोनों बांग्लादेश के साथ लगती है?

- Ans
- 1. त्रिपुरा
  - 2. असम
  - 3. मेघालय
  - 4. पश्चिम बंगाल

Question ID : 441009348120  
Option 1 ID : 4410091358802  
Option 2 ID : 4410091358805  
Option 3 ID : 4410091358803  
Option 4 ID : 4410091358804

Q.20 2024 पेरिस पैरालंपिक्स में T64 ऊंची कूद (high jump) स्पर्धा में स्वर्ण पदक जीतने वाले पहले भारतीय पैरा-एथलीट कौन बने?

- Ans
- 1. मरियप्पन थंगावेलु
  - 2. प्रवीण कुमार
  - 3. सुमित अतिल
  - 4. देवेन्द्र झाझरिया

Question ID : 441009375550  
Option 1 ID : 4410091467755  
Option 2 ID : 4410091467757  
Option 3 ID : 4410091467756  
Option 4 ID : 4410091467754

Section : Arithmetical and Numerical Ability

Q.1 त्रिशा और रिया ने 9 : 8 के अनुपात में कुछ धनराशि निवेश करके साझेदारी व्यवसाय शुरू किया। छह माह बाद पूर्वा, रिया के बराबर राशि निवेश करके व्यवसाय के साथ जुड़ गई। एक वर्ष के अंत में त्रिशा, रिया और पूर्वा के बीच लाभ का वितरण किस अनुपात में होना चाहिए?

- Ans
- 1. 23 : 10 : 18
  - 2. 10 : 9 : 5
  - 3. 16 : 16 : 9
  - 4. 9 : 8 : 4

Question ID : 441009899593  
Option 1 ID : 4410093552443  
Option 2 ID : 4410093552444  
Option 3 ID : 4410093552445  
Option 4 ID : 4410093552442

Q.2 एक दुकानदार एक वस्तु का मूल्य ₹x अंकित करता है और उस पर 70% की छूट देता है। वह छूट वाले मूल्य पर 10% VAT लगाने के बाद उसे ₹429 में बेचता है। x का मान क्या है?

- Ans
- 1. 1200
  - 2. 1400
  - 3. 1100
  - 4. 1300

Question ID : 441009237827  
Option 1 ID : 441009929678  
Option 2 ID : 441009929677  
Option 3 ID : 441009929679  
Option 4 ID : 441009929676

Q.3 एक समचतुर्भुज के विकर्णों का अनुपात 5 : 6 है, और समचतुर्भुज का क्षेत्रफल  $240 \text{ cm}^2$  है। लंबे विकर्ण की लंबाई (cm में) ज्ञात कीजिए।

- Ans
- 1. 30
  - 2. 36
  - 3. 18
  - 4. 24

Question ID : 44100918157  
Option 1 ID : 44100972440  
Option 2 ID : 44100972442  
Option 3 ID : 44100972441  
Option 4 ID : 44100972439

Q.4 एक व्यक्ति एक पुराना मोबाइल ₹8,000 में खरीदता है और उसकी मरम्मत पर ₹2,000 खर्च करता है। फिर वह उसे ₹8,500 में बेच देता है। उसका हानि प्रतिशत ज्ञात कीजिए।

- Ans
- 1. 12%
  - 2. 15%
  - 3. 20%
  - 4. 10%

Question ID : 4410091639880  
Option 1 ID : 4410096476735  
Option 2 ID : 4410096476736  
Option 3 ID : 4410096476737  
Option 4 ID : 4410096476734

Q.5 तुषार का मासिक वेतन ₹13,000 है। वह मकान किराए पर ₹4,500 और बिलों पर ₹2,500 खर्च करता है; शेष राशि उसकी मासिक बचत है। यदि वह अपने जन्मदिन के महीने में अपने जन्मदिन समारोह पर पूरी मासिक बचत खर्च कर देता है, तो एक वर्ष में उसकी बचत (₹ में) कितनी होगी?

- Ans
- 1. 54,000
  - 2. 60,000
  - 3. 66,000
  - 4. 72,000

Question ID : 441009194530  
Option 1 ID : 441009766070  
Option 2 ID : 441009766069  
Option 3 ID : 441009766067  
Option 4 ID : 441009766068

Q.6 एक मोटर यात्री 50 मिनट में 30 km की दूरी तय करता है जिसमें प्रथम 15 मिनट में उसकी चाल  $x$  kmph है, अगले 22 मिनट के लिए उसकी चाल दोगुनी है और उसके बाद शेष दूरी अपनी मूल चाल से तय करता है।  $x$  का मान ज्ञात कीजिए।

- Ans
- 1. 28
  - 2. 30
  - 3. 22
  - 4. 25

Question ID : 441009543104  
 Option 1 ID : 4410092127814  
 Option 2 ID : 4410092127815  
 Option 3 ID : 4410092127813  
 Option 4 ID : 4410092127812

Q.7 एक दुकानदार अपने सामान को 45% की हानि पर बेचने का दावा करता है, लेकिन वह दोषपूर्ण तराजू का उपयोग करके 65% का लाभ प्राप्त करता है। 1 kg वजन के लिए उसके द्वारा उपयोग किया गया वास्तविक वजन (एक दशमलव स्थान तक पूर्णांकित) ज्ञात कीजिए।

- Ans
- 1. 334.6 gm
  - 2. 333.3 gm
  - 3. 329.9 gm
  - 4. 330.4 gm

Question ID : 441009561345  
 Option 1 ID : 4410092200648  
 Option 2 ID : 4410092200647  
 Option 3 ID : 4410092200649  
 Option 4 ID : 4410092200650

Q.8 यदि  $2^m \times 2^n = 64$  है, तो  $m + n$  का मान ज्ञात करें।

- Ans
- 1. 8
  - 2. 4
  - 3. 2
  - 4. 6

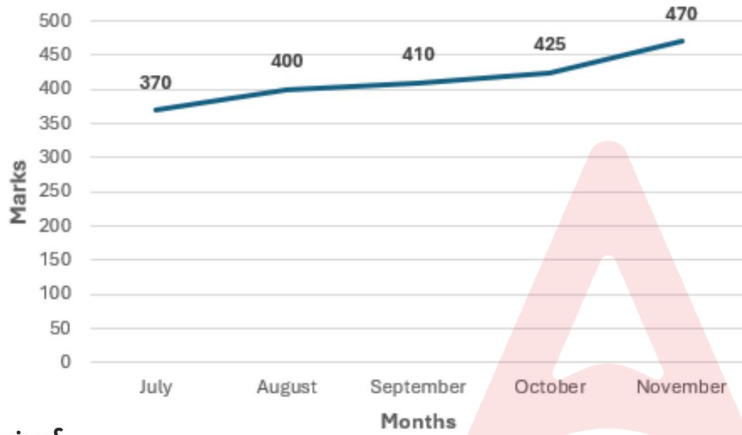
Question ID : 441009209457  
 Option 1 ID : 441009823114  
 Option 2 ID : 441009823112  
 Option 3 ID : 441009823111  
 Option 4 ID : 441009823113

Q.9 एक अर्धगोले की त्रिज्या उस लंबवृत्तीय बेलन के आधार की त्रिज्या के बराबर है, जिसकी ऊंचाई उसके आधार की त्रिज्या की दोगुनी है। एक नई आकृति बनाई जाती है जिसमें अर्धगोले को बेलन पर इस प्रकार लगाया जाता है कि अर्धगोले का आधार और बेलन का शीर्ष फलक पूर्णतः संरेखित हो। यदि बेलन की ऊंचाई 20 cm है, तो बनाई गयी नई आकृति का सम्पूर्ण पृष्ठीय क्षेत्रफल ( $\text{cm}^2$  में) कितना है?

- Ans
- 1.  $600\pi$
  - 2.  $900\pi$
  - 3.  $700\pi$
  - 4.  $800\pi$

Question ID : 441009621046  
Option 1 ID : 4410092438318  
Option 2 ID : 4410092438316  
Option 3 ID : 4410092438319  
Option 4 ID : 4410092438317

Q.10 एक स्कूल में मासिक परीक्षाएँ आयोजित की जाती हैं। निम्न रेखा ग्राफ 5 मासिक परीक्षाओं में एक विद्यार्थी द्वारा प्राप्त अंकों (500 में से) को दर्शाता है। किस मासिक परीक्षा में विद्यार्थी ने पिछले मासिक परीक्षा की तुलना में अंकों में सबसे अधिक प्रतिशत वृद्धि प्राप्त की?



संदर्भ-

Marks - अंक

Month- माह

July- जुलाई

August- अगस्त

September- सितम्बर

October- अक्टूबर

November- नवम्बर

- Ans
- 1. अक्टूबर
  - 2. सितम्बर
  - 3. नवम्बर
  - 4. अगस्त

Question ID : 441009364136  
Option 1 ID : 4410091422795  
Option 2 ID : 4410091422796  
Option 3 ID : 4410091422797  
Option 4 ID : 4410091422794

Q.11 गोपाल बैंक में ₹57,500 का निवेश करता है। यदि पहले वर्ष की ब्याज दर 4% वार्षिक थी और दूसरे वर्ष की ब्याज दर पहले वर्ष की दर से 5% वार्षिक अधिक थी, तो ब्याज को वार्षिक रूप से संयोजित मानते हुए, दो वर्षों में उसे कितना चक्रवृद्धि ब्याज (₹ में) प्राप्त होगा?

- Ans
- 1. 7,332
  - 2. 7,682
  - 3. 7,482
  - 4. 7,932

Question ID : 441009573218  
Option 1 ID : 4410092247994  
Option 2 ID : 4410092247992  
Option 3 ID : 4410092247993  
Option 4 ID : 4410092247995

Q.12 यदि  $256, x^2$  और 81 समानुपात में हैं, तो  $x$  का मान ज्ञात कीजिए।

- Ans
- 1. 10
  - 2. 12
  - 3. 13
  - 4. 11

Question ID : 4410097623  
Option 1 ID : 44100930232  
Option 2 ID : 44100930234  
Option 3 ID : 44100930235  
Option 4 ID : 44100930233

Q.13 A किसी कार्य को 10 दिनों में पूरा कर सकता है। B उसे 15 दिनों में पूरा कर सकता है। C की सहायता से उन्होंने कार्य को 2 दिनों में पूरा कर लिया। C अकेले उस काम को कितने दिनों में पूरा कर सकता है?

- Ans
- 1. 5
  - 2. 3
  - 3. 4
  - 4. 2

Question ID : 441009897344  
Option 1 ID : 4410093543449  
Option 2 ID : 4410093543446  
Option 3 ID : 4410093543448  
Option 4 ID : 4410093543447

Q.14 तीन संख्याएँ 17 : 5 : 11 के अनुपात में हैं और उनका लघुत्तम समापवर्त्य 3740 है। उनका महत्तम समापवर्तक ज्ञात कीजिए।

- Ans
- 1. 2
  - 2. 47
  - 3. 4
  - 4. 14

Question ID : 441009525727  
Option 1 ID : 4410092058328  
Option 2 ID : 4410092058330  
Option 3 ID : 4410092058327  
Option 4 ID : 4410092058329

Q.15 एक कुआँ खोदना है जिसकी गहराई 32 m और व्यास 14 m है। कुएँ के आंतरिक वक्र पृष्ठ पर प्लास्टर करने की लागत ₹8 प्रति  $m^2$  की दर से ज्ञात कीजिए।

$$\left(\pi = \frac{22}{7} \text{ प्रयोग करें।}\right)$$

- Ans
- 1. ₹11,264
  - 2. ₹11,208
  - 3. ₹10,116
  - 4. ₹12,375

Question ID : 441009621331  
Option 1 ID : 4410092439459  
Option 2 ID : 4410092439458  
Option 3 ID : 4410092439456  
Option 4 ID : 4410092439457

Q.16 30 और 40 के बीच की अभाज्य संख्याओं के औसत तथा 20 और 40 के बीच 5 के गुणजों के औसत का अंतर ज्ञात कीजिए।

- Ans
- 1. 9
  - 2. 4
  - 3. 11
  - 4. 10

Question ID : 441009580967  
Option 1 ID : 4410092278996  
Option 2 ID : 4410092278994  
Option 3 ID : 4410092278995  
Option 4 ID : 4410092278997

Q.17 10 संख्याओं का योग 588 है। उनका औसत ज्ञात कीजिए।

- Ans
- 1. 56.8
  - 2. 59.8
  - 3. 57.8
  - 4. 58.8

Question ID : 441009581977  
 Option 1 ID : 4410092283037  
 Option 2 ID : 4410092283036  
 Option 3 ID : 4410092283035  
 Option 4 ID : 4410092283034

Q.18 एक पाइप एक टंकी को 12 घंटे में भर सकता है। एक अन्य पाइप भरी हुई टंकी को 30 घंटे में खाली कर सकता है। यदि दोनों पाइप को एक साथ खोल दिया जाए, तो टंकी को भरने में लगने वाला समय (घंटों में) ज्ञात कीजिए।

- Ans
- 1. 20
  - 2. 22
  - 3. 23
  - 4. 21

Question ID : 441009194608  
 Option 1 ID : 441009766379  
 Option 2 ID : 441009766381  
 Option 3 ID : 441009766382  
 Option 4 ID : 441009766380

Q.19 A और B के बीच की दूरी 1,112 km है। A से, चमन 62 km/hr की चाल से B तक जाता है और 52 km/hr की चाल से A पर वापस आता है। चमन की औसत चाल ज्ञात कीजिए। (दो दशमलव स्थानों तक पूर्णांकित)

- Ans
- 1. 59.14 km/hr
  - 2. 51.23 km/hr
  - 3. 62.73 km/hr
  - 4. 56.56 km/hr

Question ID : 441009209089  
 Option 1 ID : 441009821641  
 Option 2 ID : 441009821640  
 Option 3 ID : 441009821642  
 Option 4 ID : 441009821639

Q.20 किस राशि (₹ में) पर 4 वर्षों में 16% वार्षिक ब्याज दर से साधारण ब्याज के रूप में ₹1680 प्राप्त होगा?

- Ans
- 1. 2526
  - 2. 2650
  - 3. 2625
  - 4. 2560

Question ID : 441009852619  
Option 1 ID : 4410093363449  
Option 2 ID : 4410093363450  
Option 3 ID : 4410093363448  
Option 4 ID : 4410093363451

Section : English Language and Comprehension

Q.1 Substitute with one word.  
The terms that refers to an intense and irrational fear of darkness.

- Ans
- 1. Xenophobia
  - 2. Hemophobia
  - 3. Acrophobia
  - 4. Nyctophobia

Question ID : 4410091526252  
Option 1 ID : 4410096028131  
Option 2 ID : 4410096028133  
Option 3 ID : 4410096028130  
Option 4 ID : 4410096028132

Q.2 Replace the underlined word segment with the correct idiom/phrase.

Taking everything into account, the team performed well this semester.

- Ans
- 1. All things considered
  - 2. Stumbling block
  - 3. Through thick and thin
  - 4. Up in the air

Question ID : 4410091555211  
Option 1 ID : 4410096143445  
Option 2 ID : 4410096143444  
Option 3 ID : 4410096143446  
Option 4 ID : 4410096143443

Q.3 Select the most appropriate antonym of the underlined word in the given sentence.

The solution was not feasible.

- Ans
- 1. immature
  - 2. impure
  - 3. implausible
  - 4. imminent

Question ID : 4410091529509  
Option 1 ID : 4410096041123  
Option 2 ID : 4410096041125  
Option 3 ID : 4410096041126  
Option 4 ID : 4410096041124

Q.4 Sentences of a paragraph are given below. While the first sentence (S1) is in the correct order, the sentences below it are jumbled up. Arrange the sentences in the correct order to form a meaningful and coherent paragraph.

(S1) A century ago, the cinema was just a mechanical toy.

- (A) Thus, it gained respectability and acceptance.
- (B) It gradually came to be considered as an art form of the new era.
- (C) By the 1920s even its worst critics had to take it seriously.
- (D) Later, it was viewed as an extension of photography.

- Ans
- 1. BDAC
  - 2. BACD
  - 3. DBCA
  - 4. ABCD

Question ID : 441009352136  
Option 1 ID : 4410091374897  
Option 2 ID : 4410091374894  
Option 3 ID : 4410091374896  
Option 4 ID : 4410091374895

Q.5 In the sentence 'Amit learned slow and steady wins the race during his preparation for the marathon', replace the underlined proverb with the option that conveys a similar meaning.

- Ans
- 1. to rush through everything
  - 2. to act without thinking
  - 3. to endure with patience and consistency
  - 4. to rely only on luck

Question ID : 4410091048413  
Option 1 ID : 4410094142727  
Option 2 ID : 4410094142725  
Option 3 ID : 4410094142724  
Option 4 ID : 4410094142726

Q.6 Select the most appropriate ANTONYM of the underlined word in the given sentence.

Riya was fortunate to receive the scholarship in such a competitive batch.

- Ans
- 1. Destined
  - 2. Unlucky
  - 3. Prosperous
  - 4. Lucky

Question ID : 4410091167902  
Option 1 ID : 4410094606184  
Option 2 ID : 4410094606185  
Option 3 ID : 4410094606186  
Option 4 ID : 4410094606183

Q.7 Choose the appropriate option to complete the sentence.

He drives so \_\_\_\_\_ that his friends refuse to get into the car with him.

- Ans
- 1. carefulness
  - 2. carelessness
  - 3. carelessly
  - 4. careless

Question ID : 4410091279423  
Option 1 ID : 4410095049654  
Option 2 ID : 4410095049653  
Option 3 ID : 4410095049652  
Option 4 ID : 4410095049651

Q.8 The underlined word in the given sentence is misspelt. Choose the correct spelling of the word to rectify the sentence.

The team celebrated their remarkable acheivment after months of hard work.

- Ans
- 1. acheevement
  - 2. achivment
  - 3. achievement
  - 4. acheivement

Question ID : 4410091555170  
Option 1 ID : 4410096143299  
Option 2 ID : 4410096143302  
Option 3 ID : 4410096143300  
Option 4 ID : 4410096143301

Q.9 Select the most appropriate option that can substitute the underlined segment in the given statement.

His behaviour at the meeting was disgusting and offensive, leaving everyone uncomfortable and annoyed.

- Ans  1. loathsome  
 2. lecherous  
 3. lacklustre  
 4. lascivious

Question ID : 441009352159  
Option 1 ID : 4410091374986  
Option 2 ID : 4410091374989  
Option 3 ID : 4410091374987  
Option 4 ID : 4410091374988

Q.10 Complete the sentence with appropriate options in the blanks.

We must act quickly \_\_\_\_\_ the situation gets worse \_\_\_\_\_ people lose confidence in the system.

- Ans  1. if / or  
 2. before / and  
 3. until / so  
 4. because / but

Question ID : 4410091300416  
Option 1 ID : 4410095133992  
Option 2 ID : 4410095133993  
Option 3 ID : 4410095133994  
Option 4 ID : 4410095133995

Q.11 Fill in the blank with the correct conjunction.

Write down the instructions \_\_\_\_\_ you forget them.

- Ans  1. lest  
 2. since  
 3. unless  
 4. while

Question ID : 4410091027549  
Option 1 ID : 4410094061729  
Option 2 ID : 4410094061727  
Option 3 ID : 4410094061730  
Option 4 ID : 4410094061728

Q.12 Sentences of a paragraph are given below. While the first sentence (S1) is in the correct order, the sentences below it are jumbled up. Arrange the sentences in the correct order to form a meaningful and coherent paragraph.

- S1) Having achieved success  
P) Indian manufacturers are well equipped  
Q) to ride the next big outsourcing wave  
R) in software exports and information technology areas  
S) this time in manufacturing from the US

Ans  1. RPQS

2. SQRP

3. QPRS

4. PRQS

Question ID : 44100927920

Option 1 ID : 441009111228

Option 2 ID : 441009111231

Option 3 ID : 441009111230

Option 4 ID : 441009111229

Q.13 Select the option with the correct spelling to replace the underlined word in the given sentence.

He becomes a sort hallow, posing dummy, the conventionalized figure of a sahib.

Ans  1. convantionalized

2. conventionalized

3. conventionalied

4. conventoinalized

Question ID : 4410091544951

Option 1 ID : 4410096102858

Option 2 ID : 4410096102856

Option 3 ID : 4410096102855

Option 4 ID : 4410096102857

Q.14 Select the most appropriate article to fill in the blanks. If no article is required, select 'No article required'.

She traveled across \_\_\_\_\_ Sahara Desert to study its changing climate.

Ans  1. a

2. an

3. no article required

4. the

Question ID : 4410091267178

Option 1 ID : 4410095001439

Option 2 ID : 4410095001440

Option 3 ID : 4410095001441

Option 4 ID : 4410095001438

Q.15 Select the most appropriate option to fill in the blanks.

She has \_\_\_\_\_ hundred rupees with which she is planning to buy \_\_\_\_\_ dozen pens.

- Ans  1. No word needed; a  
 2. a; No word needed  
 3. a; the  
 4. the; a

Question ID : 441009203219  
Option 1 ID : 441009799460  
Option 2 ID : 441009799459  
Option 3 ID : 441009799461  
Option 4 ID : 441009799458

**Comprehension:**

Read the passage and answer the following questions.

In recent years, urban farming has gained attention as a sustainable way to address food insecurity in cities. Rooftops, balconies, and vacant plots are being converted into small vegetable gardens where residents grow leafy greens, tomatoes, herbs, and even fruits. This trend is not limited to individuals; several residential societies now encourage collective farming projects, allowing neighbours to share produce and responsibilities. Urban farming also promotes environmental benefits. Plants help reduce heat in concrete-heavy neighbourhoods and improve air quality. Residents who participate in these activities report feeling more connected to nature despite living in crowded urban settings. However, urban farming also comes with challenges such as limited sunlight, water availability, and maintenance of soil quality. Still, the movement continues to grow because it offers more than just food. It fosters collaboration, encourages healthy eating habits, and transforms unused spaces into green, productive patches.

SubQuestion No : 16

Q.16 Which real-world issue does the passage connect to?

- Ans  1. Food insecurity in cities  
 2. Urban entertainment  
 3. Rural migration  
 4. Digital divide

Question ID : 4410091566755  
Option 1 ID : 4410096188360  
Option 2 ID : 4410096188359  
Option 3 ID : 4410096188361  
Option 4 ID : 4410096188362

**Comprehension:**

Read the passage and answer the following questions.

In recent years, urban farming has gained attention as a sustainable way to address food insecurity in cities. Rooftops, balconies, and vacant plots are being converted into small vegetable gardens where residents grow leafy greens, tomatoes, herbs, and even fruits. This trend is not limited to individuals; several residential societies now encourage collective farming projects, allowing neighbours to share produce and responsibilities. Urban farming also promotes environmental benefits. Plants help reduce heat in concrete-heavy neighbourhoods and improve air quality. Residents who participate in these activities report feeling more connected to nature despite living in crowded urban settings. However, urban farming also comes with challenges such as limited sunlight, water availability, and maintenance of soil quality. Still, the movement continues to grow because it offers more than just food. It fosters collaboration, encourages healthy eating habits, and transforms unused spaces into green, productive patches.

**SubQuestion No : 17**

**Q.17 Which of the following is a fact stated in the passage?**

- Ans
- 1. Urban farming guarantees high crop yield
  - 2. All city residents practice rooftop farming
  - 3. Plants help reduce heat in concrete areas
  - 4. Urban farming eliminates pollution

Question ID : 4410091566756

Option 1 ID : 4410096188363

Option 2 ID : 4410096188364

Option 3 ID : 4410096188365

Option 4 ID : 4410096188366

**Comprehension:**

Read the passage and answer the following questions.

In recent years, urban farming has gained attention as a sustainable way to address food insecurity in cities. Rooftops, balconies, and vacant plots are being converted into small vegetable gardens where residents grow leafy greens, tomatoes, herbs, and even fruits. This trend is not limited to individuals; several residential societies now encourage collective farming projects, allowing neighbours to share produce and responsibilities. Urban farming also promotes environmental benefits. Plants help reduce heat in concrete-heavy neighbourhoods and improve air quality. Residents who participate in these activities report feeling more connected to nature despite living in crowded urban settings. However, urban farming also comes with challenges such as limited sunlight, water availability, and maintenance of soil quality. Still, the movement continues to grow because it offers more than just food. It fosters collaboration, encourages healthy eating habits, and transforms unused spaces into green, productive patches.

**SubQuestion No : 18**

**Q.18 What can be inferred about residents involved in urban farming?**

- Ans
- 1. They prefer farming to all other hobbies
  - 2. They expect financial profit
  - 3. They feel closer to nature despite city life
  - 4. They avoid community interaction

Question ID : 4410091566757

Option 1 ID : 4410096188367

Option 2 ID : 4410096188369

Option 3 ID : 4410096188368

Option 4 ID : 4410096188370

**Comprehension:**

Read the passage and answer the following questions.

In recent years, urban farming has gained attention as a sustainable way to address food insecurity in cities. Rooftops, balconies, and vacant plots are being converted into small vegetable gardens where residents grow leafy greens, tomatoes, herbs, and even fruits. This trend is not limited to individuals; several residential societies now encourage collective farming projects, allowing neighbours to share produce and responsibilities. Urban farming also promotes environmental benefits. Plants help reduce heat in concrete-heavy neighbourhoods and improve air quality. Residents who participate in these activities report feeling more connected to nature despite living in crowded urban settings. However, urban farming also comes with challenges such as limited sunlight, water availability, and maintenance of soil quality. Still, the movement continues to grow because it offers more than just food. It fosters collaboration, encourages healthy eating habits, and transforms unused spaces into green, productive patches.

**SubQuestion No : 19**

**Q.19** Choose the antonym of the word *limited* as used in the passage.

- Ans
- 1. narrow
  - 2. scarce
  - 3. restricted
  - 4. abundant

Question ID : 4410091566758

Option 1 ID : 4410096188373

Option 2 ID : 4410096188371

Option 3 ID : 4410096188374

Option 4 ID : 4410096188372

**Comprehension:**

Read the passage and answer the following questions.

In recent years, urban farming has gained attention as a sustainable way to address food insecurity in cities. Rooftops, balconies, and vacant plots are being converted into small vegetable gardens where residents grow leafy greens, tomatoes, herbs, and even fruits. This trend is not limited to individuals; several residential societies now encourage collective farming projects, allowing neighbours to share produce and responsibilities. Urban farming also promotes environmental benefits. Plants help reduce heat in concrete-heavy neighbourhoods and improve air quality. Residents who participate in these activities report feeling more connected to nature despite living in crowded urban settings. However, urban farming also comes with challenges such as limited sunlight, water availability, and maintenance of soil quality. Still, the movement continues to grow because it offers more than just food. It fosters collaboration, encourages healthy eating habits, and transforms unused spaces into green, productive patches.

**SubQuestion No : 20**

**Q.20** What is the tone of the passage?

- Ans
- 1. Sarcastic
  - 2. Analytical yet positive
  - 3. Negative
  - 4. Discouraging

Question ID : 4410091566759

Option 1 ID : 4410096188377

Option 2 ID : 4410096188375

Option 3 ID : 4410096188378

Option 4 ID : 4410096188376

## Section : Hindi Language and Comprehension

Q.1 उपयुक्त 'कारक' चिह्न का चयन कर रिक्त स्थान की पूर्ति कीजिए।  
'रिया ..... लड्डू खाया।'

- Ans
- 1. को
  - 2. ने
  - 3. से
  - 4. में

Question ID : 4410091524720  
Option 1 ID : 4410096022090  
Option 2 ID : 4410096022089  
Option 3 ID : 4410096022088  
Option 4 ID : 4410096022087

Q.2 निम्नलिखित विकल्पों में से रेखांकित शब्द का पर्यायवाची पहचानिए।  
'सुबह-सुबह माँ ने गर्म दूध में हल्दी मिलाकर उसे पीने के लिए दिया, ताकि उसका गला ठीक हो जाए।'

- Ans
- 1. मृषा
  - 2. तरी
  - 3. वासर
  - 4. पय

Question ID : 4410091629846  
Option 1 ID : 4410096437472  
Option 2 ID : 4410096437471  
Option 3 ID : 4410096437469  
Option 4 ID : 4410096437470

Q.3 दिए गए वाक्य के रिक्त स्थान में गुणबोधक विशेषण शब्द का प्रयोग करें -  
'रितेश एक धावक है।'

- Ans
- 1. कोमल
  - 2. हरा
  - 3. जला
  - 4. अच्छा

Question ID : 4410091528273  
Option 1 ID : 4410096036290  
Option 2 ID : 4410096036287  
Option 3 ID : 4410096036288  
Option 4 ID : 4410096036289

Q.4 निम्नलिखित वाक्यांश के लिए सार्थक शब्द बताएं -  
'वह व्यक्ति जो लकड़ियाँ काटकर अपना रोजगार चलाता है'

- Ans
- 1. मजदूर
  - 2. बेरोजगार
  - 3. लकड़हारा
  - 4. नौकर

Question ID : 4410091288506  
Option 1 ID : 4410095085899  
Option 2 ID : 4410095085897  
Option 3 ID : 4410095085898  
Option 4 ID : 4410095085896

Q.5 रिक्त स्थान में संयुक्त क्रिया के प्रयोग से वाक्य पूर्ण करें।  
रामसिंह अब स्कूल .....।

- Ans
- 1. जाने लगा
  - 2. खोलेगा
  - 3. चलेगा
  - 4. जाएगा

Question ID : 4410091183126  
Option 1 ID : 4410094666557  
Option 2 ID : 4410094666560  
Option 3 ID : 4410094666559  
Option 4 ID : 4410094666558

Q.6 नदी में प्रवेश करने से पहले सावधानी बरतें।

वाक्य में प्रयुक्त प्रवेश शब्द का विलोम क्या है?

- Ans
- 1. प्रौढ़
  - 2. निकास
  - 3. प्रविष्टि
  - 4. गृहस्थ

Question ID : 4410091626312  
Option 1 ID : 4410096423639  
Option 2 ID : 4410096423637  
Option 3 ID : 4410096423638  
Option 4 ID : 4410096423640

Q.7 निम्नांकित विकल्पों में से उचित क्रिया-विशेषण का चयन करके वाक्य पूर्ण करें-  
राम के परीक्षा में उत्तीर्ण होने पर सभी ने .....बधाइयाँ दी।

- Ans  1. दिल से  
 2. शोक से  
 3. गुस्से से  
 4. दुःख से

Question ID : 4410091256185  
 Option 1 ID : 4410094957638  
 Option 2 ID : 4410094957639  
 Option 3 ID : 4410094957640  
 Option 4 ID : 4410094957637

Q.8 दिए गए वाक्य में रीतिवाचक क्रिया-विशेषण शब्द का चयन करके रिक्त स्थान की पूर्ति करें -  
परियोजना प्रबंधक ने कार्य को समय -सीमा के अनुसार ----- निर्धारित किया ।

- Ans  1. यहाँ  
 2. बहुत अधिक  
 3. अभी-अभी  
 4. कुशलतापूर्वक

Question ID : 4410091547150  
 Option 1 ID : 4410096111474  
 Option 2 ID : 4410096111476  
 Option 3 ID : 4410096111473  
 Option 4 ID : 4410096111475

Q.9 निम्नलिखित वाक्य में रेखांकित शब्द के विलोम शब्द का चयन दिए गए विकल्पों में से  
कीजिए-  
'आगामी' वर्षों में जनसंख्या बहुत बढ़ जाएगी।

- Ans  1. विगत  
 2. अनुगामी  
 3. अग्रिम  
 4. गतिमान

Question ID : 4410091618614  
 Option 1 ID : 4410096393329  
 Option 2 ID : 4410096393330  
 Option 3 ID : 4410096393327  
 Option 4 ID : 4410096393328

Q.10 'निशा की शीतलता ने सबको सुला दिया।' वाक्य में प्रयुक्त 'निशा' शब्द का पर्यायवाची क्या है?

- Ans  1. विभावरी  
 2. सारंग  
 3. संत्रस्त  
 4. कालिंदी

Question ID : 4410091626464  
Option 1 ID : 4410096424230  
Option 2 ID : 4410096424229  
Option 3 ID : 4410096424231  
Option 4 ID : 4410096424228

Q.11 निम्नलिखित लोकोक्ति का अर्थ बताएं -  
'कड़ाही से गिरा चूल्हे में पड़ा'

- Ans  1. ऊपरी वेशभूषा से किसी के अवगुण नहीं छिप जाते  
 2. अपनी चिंता न करके दूसरों की चिंता में घुलना  
 3. प्रयत्न करते रहना चाहिए सफलता मिलेगी  
 4. छोटी विपत्ति से छूटकर बड़ी विपत्ति में पड़ गया

Question ID : 4410091530571  
Option 1 ID : 4410096045368  
Option 2 ID : 4410096045370  
Option 3 ID : 4410096045369  
Option 4 ID : 4410096045367

Q.12 दिए गए वाक्यांश के लिए सार्थक शब्द चुनें-  
जिसकी मृत्यु समय से पहले हो जाए

- Ans  1. अकालमृत्यु  
 2. मोक्ष  
 3. अच्युत  
 4. कालमृत्यु

Question ID : 4410091333088  
Option 1 ID : 4410095263986  
Option 2 ID : 4410095263984  
Option 3 ID : 4410095263985  
Option 4 ID : 4410095263987

Q.13 दिये गए वाक्य के रेखांकित शब्द का विलोम शब्द चुनिए -

अध्यापक ने मंदबुद्धि छात्रों को विशेष ध्यान देकर पढ़ाने की योजना बनाई।

- Ans  1. कुशाग्र बुद्धि  
 2. दुष्टबुद्धि  
 3. अल्प बुद्धि  
 4. शठबुद्धि

Question ID : 4410091547298

Option 1 ID : 4410096112061

Option 2 ID : 4410096112062

Option 3 ID : 4410096112060

Option 4 ID : 4410096112059

Q.14 निम्न में से 'तूती बोलना' मुहावरे का सही अर्थ कौन-सा है ?

- Ans  1. सत्कार करना  
 2. प्रभाव जमाना  
 3. अचेत होना  
 4. शृंगार करना

Question ID : 4410091626287

Option 1 ID : 4410096423540

Option 2 ID : 4410096423537

Option 3 ID : 4410096423539

Option 4 ID : 4410096423538

Q.15 निम्नलिखित विकल्पों में से कौन-से वाक्य में वर्तनी से सम्बन्धित त्रुटि नहीं है?

- Ans  1. उनहोंने भूखों को भोजन दिया।  
 2. उनहोने भूखों को भोजन दिया।  
 3. उन्होने भूखों को भोजन दिया।  
 4. उन्होंने भूखों को भोजन दिया।

Question ID : 4410091530773

Option 1 ID : 4410096046178

Option 2 ID : 4410096046176

Option 3 ID : 4410096046177

Option 4 ID : 4410096046175

**Comprehension:**

दिए गए गद्यांश को पढ़कर नीचे लिखे प्रश्नों के उत्तर दीजिए।

मानव जीवन भावनाओं, अनुभूतियों और विचारों की जटिल बुनावट से निर्मित होता है। जब यह संतुलन बिगड़ जाता है, तो मनोविकार जन्म लेते हैं। मनोविकार केवल मानसिक कमजोरी का संकेत नहीं, बल्कि मन के भीतर चल रहे संघर्षों का दर्पण होते हैं। कभी-कभी बाहरी दबाव, असफलताओं का बोझ अथवा अपूर्ण इच्छाओं की पीड़ा मनुष्य को भीतर से तोड़ देती है। परिणामस्वरूप भय, अवसाद, क्रोध या भ्रम जैसे भाव हावी होने लगते हैं। मानव यदि समय रहते अपने मन की बात किसी विश्वसनीय व्यक्ति से साझा करे तो चिंता और तनाव का बोझ काफी हद तक कम हो सकता है। मनोविकार से जूझ रहे व्यक्ति को उपहास नहीं, सहानुभूति और समर्थन की आवश्यकता होती है। यह समझना आवश्यक है कि स्वस्थ मन ही जीवन को ऊर्जा, रचनात्मकता और संतुलन प्रदान करता है। जब मन स्वस्थ होगा, तभी व्यक्ति अपने लक्ष्य, संबंध और उत्तरदायित्वों को सार्थक रूप से निभा सकेगा। अतः मनोविकार को समझना, स्वीकारना और समय पर उपचार लेना मानव जीवन को सकारात्मक दिशा देने के लिए अत्यंत महत्वपूर्ण है।

**SubQuestion No : 16**

Q.16 गद्यांश के अनुसार मनोविकार उत्पन्न होने का कारण है -

- Ans
- 1. संतुलित जीवन
  - 2. दृढ़ इच्छाशक्ति
  - 3. असंतुलित भावनाएँ
  - 4. कार्य में सफलता

Question ID : 4410091545525

Option 1 ID : 4410096105120

Option 2 ID : 4410096105122

Option 3 ID : 4410096105121

Option 4 ID : 4410096105119

**Comprehension:**

दिए गए गद्यांश को पढ़कर नीचे लिखे प्रश्नों के उत्तर दीजिए।

मानव जीवन भावनाओं, अनुभूतियों और विचारों की जटिल बुनावट से निर्मित होता है। जब यह संतुलन बिगड़ जाता है, तो मनोविकार जन्म लेते हैं। मनोविकार केवल मानसिक कमजोरी का संकेत नहीं, बल्कि मन के भीतर चल रहे संघर्षों का दर्पण होते हैं। कभी-कभी बाहरी दबाव, असफलताओं का बोझ अथवा अपूर्ण इच्छाओं की पीड़ा मनुष्य को भीतर से तोड़ देती है। परिणामस्वरूप भय, अवसाद, क्रोध या भ्रम जैसे भाव हावी होने लगते हैं। मानव यदि समय रहते अपने मन की बात किसी विश्वसनीय व्यक्ति से साझा करे तो चिंता और तनाव का बोझ काफी हद तक कम हो सकता है। मनोविकार से जूझ रहे व्यक्ति को उपहास नहीं, सहानुभूति और समर्थन की आवश्यकता होती है। यह समझना आवश्यक है कि स्वस्थ मन ही जीवन को ऊर्जा, रचनात्मकता और संतुलन प्रदान करता है। जब मन स्वस्थ होगा, तभी व्यक्ति अपने लक्ष्य, संबंध और उत्तरदायित्वों को सार्थक रूप से निभा सकेगा। अतः मनोविकार को समझना, स्वीकारना और समय पर उपचार लेना मानव जीवन को सकारात्मक दिशा देने के लिए अत्यंत महत्वपूर्ण है।

**SubQuestion No : 17**

Q.17 गद्यांश के अनुसार मनोविकार किसका दर्पण होते हैं?

- Ans
- 1. जीवन की उपलब्धि का
  - 2. उदार भावनाओं का
  - 3. शारीरिक पीड़ा का
  - 4. मन के आंतरिक संघर्षों का

Question ID : 4410091545526

Option 1 ID : 4410096105126

Option 2 ID : 4410096105125

Option 3 ID : 4410096105123

Option 4 ID : 4410096105124

**Comprehension:**

दिए गए गद्यांश को पढ़कर नीचे लिखे प्रश्नों के उत्तर दीजिए।

मानव जीवन भावनाओं, अनुभूतियों और विचारों की जटिल बुनावट से निर्मित होता है। जब यह संतुलन बिगड़ जाता है, तो मनोविकार जन्म लेते हैं। मनोविकार केवल मानसिक कमजोरी का संकेत नहीं, बल्कि मन के भीतर चल रहे संघर्षों का दर्पण होते हैं। कभी-कभी बाहरी दबाव, असफलताओं का बोझ अथवा अपूर्ण इच्छाओं की पीड़ा मनुष्य को भीतर से तोड़ देती है। परिणामस्वरूप भय, अवसाद, क्रोध या भ्रम जैसे भाव हावी होने लगते हैं। मानव यदि समय रहते अपने मन की बात किसी विश्वसनीय व्यक्ति से साझा करे तो चिंता और तनाव का बोझ काफी हद तक कम हो सकता है। मनोविकार से जूझ रहे व्यक्ति को उपहास नहीं, सहानुभूति और समर्थन की आवश्यकता होती है। यह समझना आवश्यक है कि स्वस्थ मन ही जीवन को ऊर्जा, रचनात्मकता और संतुलन प्रदान करता है। जब मन स्वस्थ होगा, तभी व्यक्ति अपने लक्ष्य, संबंध और उत्तरदायित्वों को सार्थक रूप से निभा सकेगा। अतः मनोविकार को समझना, स्वीकारना और समय पर उपचार लेना मानव जीवन को सकारात्मक दिशा देने के लिए अत्यंत महत्वपूर्ण है।

**SubQuestion No : 18**

Q.18 मनोविकार से जूझ रहे व्यक्ति को सबसे अधिक आवश्यकता किसकी होती है?

- Ans
- 1. प्रतियोगिता की
  - 2. उदासीनता की
  - 3. समर्थन की
  - 4. उपहास की

Question ID : 4410091545527

Option 1 ID : 4410096105129

Option 2 ID : 4410096105128

Option 3 ID : 4410096105130

Option 4 ID : 4410096105127

**Comprehension:**

दिए गए गद्यांश को पढ़कर नीचे लिखे प्रश्नों के उत्तर दीजिए।

मानव जीवन भावनाओं, अनुभूतियों और विचारों की जटिल बुनावट से निर्मित होता है। जब यह संतुलन बिगड़ जाता है, तो मनोविकार जन्म लेते हैं। मनोविकार केवल मानसिक कमजोरी का संकेत नहीं, बल्कि मन के भीतर चल रहे संघर्षों का दर्पण होते हैं। कभी-कभी बाहरी दबाव, असफलताओं का बोझ अथवा अपूर्ण इच्छाओं की पीड़ा मनुष्य को भीतर से तोड़ देती है। परिणामस्वरूप भय, अवसाद, क्रोध या भ्रम जैसे भाव हावी होने लगते हैं। मानव यदि समय रहते अपने मन की बात किसी विश्वसनीय व्यक्ति से साझा करे तो चिंता और तनाव का बोझ काफी हद तक कम हो सकता है। मनोविकार से जूझ रहे व्यक्ति को उपहास नहीं, सहानुभूति और समर्थन की आवश्यकता होती है। यह समझना आवश्यक है कि स्वस्थ मन ही जीवन को ऊर्जा, रचनात्मकता और संतुलन प्रदान करता है। जब मन स्वस्थ होगा, तभी व्यक्ति अपने लक्ष्य, संबंध और उत्तरदायित्वों को सार्थक रूप से निभा सकेगा। अतः मनोविकार को समझना, स्वीकारना और समय पर उपचार लेना मानव जीवन को सकारात्मक दिशा देने के लिए अत्यंत महत्वपूर्ण है।

**SubQuestion No : 19**

Q.19 स्वस्थ मन जीवन को क्या प्रदान करता है?

- Ans
- 1. निराशा, नकारात्मकता
  - 2. ऊर्जा, रचनात्मकता और संतुलन
  - 3. बाधाएँ, निरुत्पत्ता
  - 4. अशान्ति, तनाव

Question ID : 4410091545528

Option 1 ID : 4410096105132

Option 2 ID : 4410096105133

Option 3 ID : 4410096105134

Option 4 ID : 4410096105131

**Comprehension:**

दिए गए गद्यांश को पढ़कर नीचे लिखे प्रश्नों के उत्तर दीजिए।

मानव जीवन भावनाओं, अनुभूतियों और विचारों की जटिल बुनावट से निर्मित होता है। जब यह संतुलन बिगड़ जाता है, तो मनोविकार जन्म लेते हैं। मनोविकार केवल मानसिक कमजोरी का संकेत नहीं, बल्कि मन के भीतर चल रहे संघर्षों का दर्पण होते हैं। कभी-कभी बाहरी दबाव, असफलताओं का बोझ अथवा अपूर्ण इच्छाओं की पीड़ा मनुष्य को भीतर से तोड़ देती है। परिणामस्वरूप भय, अवसाद, क्रोध या भ्रम जैसे भाव हावी होने लगते हैं। मानव यदि समय रहते अपने मन की बात किसी विश्वसनीय व्यक्ति से साझा करे तो चिंता और तनाव का बोझ काफी हद तक कम हो सकता है। मनोविकार से जूझ रहे व्यक्ति को उपहास नहीं, सहानुभूति और समर्थन की आवश्यकता होती है। यह समझना आवश्यक है कि स्वस्थ मन ही जीवन को ऊर्जा, रचनात्मकता और संतुलन प्रदान करता है। जब मन स्वस्थ होगा, तभी व्यक्ति अपने लक्ष्य, संबंध और उत्तरदायित्वों को सार्थक रूप से निभा सकेगा। अतः मनोविकार को समझना, स्वीकारना और समय पर उपचार लेना मानव जीवन को सकारात्मक दिशा देने के लिए अत्यंत महत्वपूर्ण है।

**SubQuestion No : 20**

Q.20 'समर्थन' का पर्यायवाची शब्द क्या है?

- Ans
- 1. उपेक्षा
  - 2. कठोरता
  - 3. अनुमोदन
  - 4. उदासीनता

Question ID : 4410091545529

Option 1 ID : 4410096105136

Option 2 ID : 4410096105137

Option 3 ID : 4410096105135

Option 4 ID : 4410096105138

**Section : Discipline1**

Q.1 वह सार्वभौमिक सिद्धांत जो यह बताता है कि शारीरिक विकास सिर से नीचे की ओर पैरों तक क्रमिक रूप से होता है, उसे \_\_\_\_\_ के नाम से जाना जाता है।

- Ans
- 1. एकीकरण (Integration)
  - 2. शिर पदाभिमुख (Cephalocaudal)
  - 3. समीप दूराभिमुख (Proximodistal)
  - 4. विभेदन (Differentiation)

Question ID : 4410091549476

Option 1 ID : 4410096120636

Option 2 ID : 4410096120634

Option 3 ID : 4410096120633

Option 4 ID : 4410096120635

Q.2 मूर्त वस्तुओं के संबंध में तार्किक रूप से सोचने और संरक्षण (conservation) जैसी अवधारणाओं को समझने की क्षमता किस अवस्था में दिखाई देती है?

- Ans
- 1. औपचारिक संक्रियात्मक अवस्था (Formal operational stage)
  - 2. मूर्त संक्रियात्मक अवस्था (Concrete operational stage)
  - 3. पूर्वसंक्रियात्मक अवस्था (Preoperational stage)
  - 4. संवेदीप्रेरक अवस्था (Sensorimotor stage)

Question ID : 4410091538566  
Option 1 ID : 4410096077532  
Option 2 ID : 4410096077531  
Option 3 ID : 4410096077530  
Option 4 ID : 4410096077529

Q.3 निम्नलिखित में से कौन-सा विकल्प, मध्य बाल्यावस्था के सामाजिक विकास अभिलक्षण का सर्वोत्तम वर्णन करता है?

- Ans
- 1. बच्चे व्यक्तिगत पहचान निर्माण और आत्म-अन्वेषण पर गहन रूप से फोकस करते हैं।
  - 2. बच्चे मुख्यतः सामूहिक बातचीत के बिना एकल खेल में शामिल होते हैं।
  - 3. बच्चे अपने समकक्षी के साथ संबंध और दोस्ती को अधिकाधिक महत्व देते हैं और उनकी तलाश करते हैं।
  - 4. बच्चे अपनी सभी संवेगात्मक और सामाजिक आवश्यकताओं के लिए मुख्यतः परिवार के सदस्यों पर निर्भर रहते हैं।

Question ID : 4410091603948  
Option 1 ID : 4410096334983  
Option 2 ID : 4410096334982  
Option 3 ID : 4410096334980  
Option 4 ID : 4410096334981

Q.4 विद्यालयों में सोपानिक जाति व्यवस्था का सामान्य प्रभाव क्या है?

- Ans
- 1. सभी के लिए समान अवसर
  - 2. विद्यार्थियों के बीच सामाजिक पृथक्करण
  - 3. विद्यार्थियों पर समकक्षी के दबाव का अभाव
  - 4. सभी के बीच समान संसाधन वितरण

Question ID : 4410091640179  
Option 1 ID : 4410096477914  
Option 2 ID : 4410096477915  
Option 3 ID : 4410096477917  
Option 4 ID : 4410096477916

Q.5 निम्नलिखित में से कौन-सा, सूक्ष्म गामक कौशल का उदाहरण है?

- Ans
- 1. हाथों और घुटनों के बल रेंगना
  - 2. पेट से पीठ की ओर लुढ़कना
  - 3. सहारे से खड़े होने के लिए खींचना
  - 4. एक हाथ से चरखी (rattle) पकड़ना

Question ID : 4410091611043

Option 1 ID : 4410096363027

Option 2 ID : 4410096363028

Option 3 ID : 4410096363030

Option 4 ID : 4410096363029

Q.6 पियाजे के अनुसार, संज्ञानात्मक विकास की किस अवस्था में मूर्त वस्तुओं के संबंध में तार्किक रूप से चिंतन करने की क्षमता होती है, लेकिन अभी तक अमूर्त विचारों के संबंध में नहीं होती है?

- Ans
- 1. संवेदी प्रेरक अवस्था
  - 2. औपचारिक संक्रियात्मक अवस्था
  - 3. मूर्त संक्रियात्मक अवस्था
  - 4. पूर्व संक्रियात्मक अवस्था

Question ID : 4410091603999

Option 1 ID : 4410096335186

Option 2 ID : 4410096335189

Option 3 ID : 4410096335188

Option 4 ID : 4410096335187

Q.7 निम्नलिखित में से कौन-सी, राधा कृष्णन आयोग की एक प्रमुख अनुशंसा थी?

- Ans
- 1. विश्वविद्यालयों में रट्टा अधिगम पर जोर देना।
  - 2. उच्च शिक्षा को शहरी क्षेत्रों तक सीमित करना।
  - 3. विश्वविद्यालयों में शैक्षणिक स्वतंत्रता और अनुसंधान को बढ़ावा देना।
  - 4. विश्वविद्यालयों की संख्या में कमी लाना।

Question ID : 4410091546877

Option 1 ID : 4410096110376

Option 2 ID : 4410096110378

Option 3 ID : 4410096110377

Option 4 ID : 4410096110379

Q.8 प्राथमिक शिक्षा के सार्वभौमीकरण के लिए निम्नलिखित में से कौन-सा कार्यक्रम प्रस्तावित किया गया था?

- Ans
- 1. मध्याह्न भोजन कार्यक्रम
  - 2. राष्ट्रीय माध्यमिक शिक्षा अभियान
  - 3. राष्ट्रीय साक्षरता मिशन
  - 4. सर्व शिक्षा अभियान

Question ID : 4410091570168

Option 1 ID : 4410096201672

Option 2 ID : 4410096201669

Option 3 ID : 4410096201671

Option 4 ID : 4410096201670

Q.9 तदनुभूति विकसित करना, साझा करना सीखना और सहयोगशील खेल में शामिल होना किस अवस्था का अभिलक्षण है?

- Ans
- 1. किशोरावस्था
  - 2. शैशवावस्था
  - 3. प्रारंभिक बाल्यावस्था
  - 4. मध्य बाल्यावस्था

Question ID : 4410091525117

Option 1 ID : 4410096023661

Option 2 ID : 4410096023658

Option 3 ID : 4410096023659

Option 4 ID : 4410096023660

Q.10 किसी कक्षा में होने वाले वाद-विवाद के दौरान, हम विद्यार्थियों को सामाजिक मुद्दों पर बिना किसी दंड या अवरोधन के डर के खुलकर अपनी राय साझा करने के लिए प्रोत्साहित करते हैं। प्रस्तावना में उल्लिखित किस सिद्धांत को इस परिदृश्य में सबसे अधिक प्रभावी ढंग से बढ़ावा दिया जा रहा है?

- Ans
- 1. समानता
  - 2. न्याय
  - 3. स्वतंत्रता
  - 4. बंधुत्व

Question ID : 4410091628771

Option 1 ID : 4410096433233

Option 2 ID : 4410096433230

Option 3 ID : 4410096433232

Option 4 ID : 4410096433231

Q.11 निम्नलिखित में से कौन-सा, समाजशास्त्र की अवधारणा को सर्वोत्तम ढंग से परिभाषित करता है?

- Ans
- 1. सामाजिक रीति-रिवाजों और परंपराओं का वैज्ञानिक अध्ययन
  - 2. आर्थिक विकास का वैज्ञानिक अध्ययन
  - 3. समाज, संस्था और संबंधों का वैज्ञानिक अध्ययन
  - 4. नैतिक और धार्मिक विज्ञानों का वैज्ञानिक अध्ययन

Question ID : 4410091693085  
Option 1 ID : 4410096678387  
Option 2 ID : 4410096678388  
Option 3 ID : 4410096678386  
Option 4 ID : 4410096678385

Q.12 RTE अधिनियम 2009 के अनुसार, निःशुल्क और अनिवार्य प्राथमिक शिक्षा के लिए लक्षित आयु वर्ग क्या है?

- Ans
- 1. 6 से 14 वर्ष
  - 2. 3 से 6 वर्ष
  - 3. 18 से 21 वर्ष
  - 4. 14 से 18 वर्ष

Question ID : 4410091692961  
Option 1 ID : 4410096677925  
Option 2 ID : 4410096677924  
Option 3 ID : 4410096677927  
Option 4 ID : 4410096677926

Q.13 निम्नलिखित में से कौन-सा तत्व पाठ्य-विवरण (syllabus) को पाठ्यचर्या (curriculum) से पृथक करता है?

- Ans
- 1. एक पाठ्य-विवरण एक कानूनी दस्तावेज (legal document) होता है
  - 2. एक पाठ्य-विवरण में संपूर्ण शैक्षिक यात्रा (educational journey) शामिल होती है
  - 3. एक पाठ्य-विवरण विद्यालय के अवसंरचना (infrastructure) पर केंद्रित होता है।
  - 4. एक पाठ्य-विवरण सामान्यतः किसी विषय या कोर्स (course) के लिए विशिष्ट होता है

Question ID : 4410091690331  
Option 1 ID : 4410096667604  
Option 2 ID : 4410096667603  
Option 3 ID : 4410096667605  
Option 4 ID : 4410096667602

Q.14 यदि आइज़ेक (Eysenck) के अनुसार किसी व्यक्ति में उच्च मनोविकृति (psychoticism) पाई जाती है, तो उसके द्वारा कौन-सा व्यवहार प्रदर्शित किए जाने की सर्वाधिक संभावना है?

- Ans
- 1. संवेगात्मक स्थायित्व
  - 2. आक्रामकता और आवेगशीलता
  - 3. आत्म-प्रत्यक्षीकरण
  - 4. निष्कपटता और निष्पक्षता

Question ID : 4410091676722  
Option 1 ID : 4410096615417  
Option 2 ID : 4410096615416  
Option 3 ID : 4410096615418  
Option 4 ID : 4410096615415

Q.15 पाठ्यचर्या के प्रति सामाजिक पुनःरचनावाद (reconstructionist) उपागम का सिद्धांत क्या है?

- Ans
- 1. सामाजिक मुद्दों को संबोधित करना और परिवर्तन को बढ़ावा देना
  - 2. विद्यालयों में केवल अकादमिक विषयों पर केंद्रित होना
  - 3. विद्यार्थियों में रट कर याद करने पर बल देना
  - 4. कक्षाओं में विवादास्पद टॉपिकों से बचना

Question ID : 4410091607770  
Option 1 ID : 4410096350036  
Option 2 ID : 4410096350038  
Option 3 ID : 4410096350037  
Option 4 ID : 4410096350039

Q.16 एक शिक्षक, शिक्षण को बेहतर बनाने के लिए विभिन्न पृष्ठभूमियों के विद्यार्थियों के आपसी व्यवहार का अध्ययन करता है। समाजशास्त्र का कौन-सा पहलू इसमें प्रदर्शित होता है?

- Ans
- 1. समाजशास्त्र, सामाजिक संबंधों और अधिगम पर उनके प्रभाव का अध्ययन करता है।
  - 2. समाजशास्त्र, कक्षाकक्ष नियमावली और दिनचर्या स्थापित करने में सहायक होता है।
  - 3. समाजशास्त्र, समाज में उत्पादन और उपभोग के स्वरूपों का विश्लेषण करता है।
  - 4. समाजशास्त्र, स्वयं को व्यक्तिगत व्यवहार तक सीमित रखता है और समूहों की उपेक्षा करता है।

Question ID : 4410091568289  
Option 1 ID : 4410096194442  
Option 2 ID : 4410096194440  
Option 3 ID : 4410096194441  
Option 4 ID : 4410096194443

Q.17 एक स्कूल पाठ्यचर्या के लक्ष्यों को समाज और शिक्षार्थियों की आवश्यकताओं के अनुरूप बनाने के लिए उद्योग पेशेवरों, शिक्षकों और अभिभावकों के साथ हितधारक परामर्श आयोजित करता है। यह मुख्य रूप से पाठ्यचर्या विकास के किस चरण को दर्शाता है?

- Ans
- 1. आवश्यकता आकलन और उद्देश्यों का निर्धारण चरण
  - 2. अधिगम अनुभव डिजाइन और गतिविधि नियोजन चरण
  - 3. अंतर्वस्तु अनुक्रमण और अनुदेशनात्मक सामग्री का चयन
  - 4. पाठ्यचर्या मूल्यांकन और पुनरावर्ती संशोधन चरण

Question ID : 4410091629028

Option 1 ID : 4410096434255

Option 2 ID : 4410096434257

Option 3 ID : 4410096434254

Option 4 ID : 4410096434256

Q.18 A teacher in a government school implements NEP-2020 reforms by integrating gender-sensitive activities and inclusive classroom discussions. Over time, students from marginalized backgrounds report higher engagement and reduced bias from peers. What does this outcome demonstrate?

- Ans
- 1. Federalism ensures equal resources for all schools
  - 2. Economic growth alone improves classroom diversity
  - 3. Reservation policies directly increase academic achievement
  - 4. Holistic education addresses equity and social inclusion

Question ID : 4410091612818

Option 1 ID : 4410096370120

Option 2 ID : 4410096370121

Option 3 ID : 4410096370119

Option 4 ID : 4410096370118

Q.19 While observing students in a science class, a teacher notes that one student is able to mentally reverse the steps of dissolving salt in water to understand how to retrieve the salt. According to Piaget, which cognitive process does this student display?

- Ans
- 1. Transitivity
  - 2. Seriation
  - 3. Reversibility
  - 4. Egocentrism

Question ID : 4410091682618

Option 1 ID : 4410096637729

Option 2 ID : 4410096637727

Option 3 ID : 4410096637728

Option 4 ID : 4410096637726

Q.20 भारत में जेंडर असमानता (gender inequality) के बने रहने में कौन-सा कारक संयोजन योगदान देता है?

- Ans
- 1. महिलाओं में उच्च साक्षरता दर और समान वेतन
  - 2. सीमित पारिवारिक प्रभाव और प्रचुर सहायता सेवाएँ
  - 3. निर्धनता, आर्थिक अवसरों की कमी और पितृत्रात्मक सामाजिक मानदंड
  - 4. निर्णयन की प्रक्रियाओं में अत्यधिक महिला सहभागिता

Question ID : 4410091601709  
Option 1 ID : 4410096326437  
Option 2 ID : 4410096326438  
Option 3 ID : 4410096326436  
Option 4 ID : 4410096326439

Section : Discipline2

Q.1 समूह व्यवहार परिवर्तन की प्रक्रिया में, "सुझाव" (suggestion) से क्या अभिप्राय है?

- Ans
- 1. बाह्य प्रभाव के बिना व्यक्तिगत चिंतन
  - 2. समूह के दबाव या निर्देश का निष्क्रिय प्रतिरोध
  - 3. समूह मानदंडों से असंबंधित स्वतःस्फूर्त क्रियाएँ
  - 4. समूह नेता द्वारा प्रस्तावित विचारों की सहज स्वीकृति

Question ID : 4410091572370  
Option 1 ID : 4410096210468  
Option 2 ID : 4410096210471  
Option 3 ID : 4410096210470  
Option 4 ID : 4410096210469

Q.2 कक्षा में कौन-सा क्रियाकलाप अनुभवात्मक अधिगम के सिद्धांतों के साथ सर्वाधिक अनुरूप है?

- Ans
- 1. पाठ्यपुस्तक का अध्याय पढ़ना और मुख्य जानकारियों का सारांश लिखना।
  - 2. विज्ञान का प्रयोग करना और सहपाठियों के साथ परिणामों पर चर्चा करना।
  - 3. शिक्षक द्वारा सिद्धांतों और तथ्यात्मक जानकारियों पर दिए गए व्याख्यान को सुनना।
  - 4. वैज्ञानिक संकल्पनाओं और प्रक्रियाओं को समझाते हुए शैक्षिक वीडियो देखना।

Question ID : 4410091637506  
Option 1 ID : 4410096467595  
Option 2 ID : 4410096467592  
Option 3 ID : 4410096467594  
Option 4 ID : 4410096467593

Q.3 विद्यार्थियों को सचेतनता अभ्यासों (mindfulness exercises) से तत्काल क्या लाभ मिल सकता है?

- Ans
- 1. गृहकार्य का भार बढ़ना
  - 2. कक्षा में अवधान क्षमता में सुधार
  - 3. उच्च परीक्षा अंक
  - 4. दीर्घ विराम समय

Question ID : 4410091607874

Option 1 ID : 4410096350441

Option 2 ID : 4410096350442

Option 3 ID : 4410096350440

Option 4 ID : 4410096350443

Q.4 निम्नलिखित में से कौन-सा, कल्पना के माध्यम से सामाजिक विकास और आत्म-अभिज्ञान है?

- Ans
- 1. केवल संस्कृति, वैयक्तिक जटिलता की अवधारणा को विकसित करने के लिए अपर्याप्त होती है।
  - 2. कक्षा में फिल्मों का उपयोग करने से भूमिकाओं और सामाजिक गतिविधियों के बारे में जागरूकता लाने में मदद मिलती है।
  - 3. बहुत कम लोग ही सामाजिक अनुभवों के माध्यम से अपनी जटिल पहचान विकसित कर सकते हैं।
  - 4. फिल्म और रचनात्मक मीडिया का उपयोग शिक्षा में सामाजिक वृद्धि को बढ़ावा देने में मदद करता है।

Question ID : 4410091546645

Option 1 ID : 4410096109461

Option 2 ID : 4410096109459

Option 3 ID : 4410096109460

Option 4 ID : 4410096109462

Q.5 शिक्षण के सिद्धांतों के अनुसार, 'ज्ञात से अज्ञात की ओर' (from known to unknown) सूत्र के उपयोग का मुख्य उद्देश्य क्या है?

- Ans
- 1. उन्नत समझ के लिए पाठ को जटिल अवधारणाओं के साथ प्रारंभ करना।
  - 2. प्रारंभ से ही केवल अमूर्त विचारों पर ध्यान केंद्रित करना।
  - 3. नई जानकारी को शिक्षार्थियों के विद्यमान ज्ञान (existing knowledge) के साथ जोड़ना।
  - 4. पूर्व संदर्भ के बिना अपरिचित विषयों को प्रस्तुत करना।

Question ID : 4410091631326

Option 1 ID : 4410096443528

Option 2 ID : 4410096443531

Option 3 ID : 4410096443529

Option 4 ID : 4410096443530

Q.6 एक कक्षा में, विद्यार्थी समूह परिचर्चा के दौरान नियमित रूप से बारी-बारी (turn-taking) से भाग लेते हैं। यहां साक्षरता विकास के लिए भाषा के किस कार्य का उपयोग किया जा रहा है?

- Ans  1. सहभागी अधिगम के लिए सामाजिक मध्यस्थता  
 2. पाठ्यपुस्तक विषय-वस्तु की पुनरावृत्ति  
 3. बोध हेतु व्यक्तिगत मौन पठन  
 4. स्पष्टता के लिए केवल शिक्षक स्पष्टीकरण

Question ID : 4410091606415  
 Option 1 ID : 4410096344673  
 Option 2 ID : 4410096344675  
 Option 3 ID : 4410096344672  
 Option 4 ID : 4410096344674

Q.7 एक ऐसी फिल्म पर आधारित पाठ योजना (lesson plan) तैयार करते समय जिसमें सशक्त सामाजिक और शैक्षिक विषय हों, किस मूल मूल्य (core value) पर जोर दिया जाना चाहिए?

- Ans  1. दूसरों की मदद करना  
 2. खेलों में प्रतिस्पर्धा  
 3. सख्त अनुशासन  
 4. वित्तीय सफलता

Question ID : 4410091681670  
 Option 1 ID : 4410096634058  
 Option 2 ID : 4410096634060  
 Option 3 ID : 4410096634059  
 Option 4 ID : 4410096634061

Q.8 कौन-सा कथन 'पाठ्यचर्या में भाषा' का सबसे सटीक वर्णन करता है?

- Ans  1. अधिगम मुख्यतः कंठस्थीकरण पर निर्भर करता है।  
 2. भाषा सभी विषयों के अधिगम में सहायता करती है।  
 3. भाषा का प्रयोग केवल भाषा संबंधी विषयों में ही किया जाता है।  
 4. विषयवस्तु भाषा के प्रयोग से अधिक महत्वपूर्ण होती है।

Question ID : 4410091576603  
 Option 1 ID : 4410096227216  
 Option 2 ID : 4410096227215  
 Option 3 ID : 4410096227218  
 Option 4 ID : 4410096227217

Q.9 वह कौन-सा शब्द है जो शब्दों को वाक्यांशों और वाक्यों में संयोजित करने के नियमों का वर्णन करता है?

- Ans
- 1. आकृति विज्ञान
  - 2. अर्थ विज्ञान
  - 3. ध्वनिविज्ञान
  - 4. वाक्यविन्यास

Question ID : 4410091636491  
Option 1 ID : 4410096463863  
Option 2 ID : 4410096463861  
Option 3 ID : 4410096463864  
Option 4 ID : 4410096463862

Q.10 प्रारंभिक साक्षरता आकलन के लिए केवल कक्षा प्रेक्षणों का उपयोग करने की सीमा क्या है?

- Ans
- 1. प्रेक्षण अन्य साधनों को अनावश्यक बना देते हैं।
  - 2. कुछ साक्षरता कौशल कक्षा सेटिंग में दिखाई नहीं दे सकते हैं।
  - 3. प्रेक्षण सदैव व्यक्तिपरक और अभिनत होते हैं।
  - 4. प्रेक्षण मूल्यांकन के लिए आवश्यक सभी साक्ष्य प्रदान करते हैं।

Question ID : 4410091608434  
Option 1 ID : 4410096352651  
Option 2 ID : 4410096352648  
Option 3 ID : 4410096352649  
Option 4 ID : 4410096352650

Q.11 नवोदित प्रशिक्षकों में एक सामान्य मिथ्या-धारणा यह है कि शिक्षण-शास्त्र \_\_\_\_\_ के समतुल्य है।

- Ans
- 1. शिक्षण-शास्त्रीय विषय-वस्तु ज्ञान के विकास
  - 2. अधिगम गतिविधियों में विविधता लाने की प्रक्रिया
  - 3. शिक्षण विधियों और मूल्यांकनों के संयोजन
  - 4. व्याख्यानों के माध्यम से पाठ्यक्रम सामग्री की प्रस्तुति

Question ID : 4410091572374  
Option 1 ID : 4410096210487  
Option 2 ID : 4410096210485  
Option 3 ID : 4410096210484  
Option 4 ID : 4410096210486

Q.12 समाज के कामकाज और निरंतरता के लिए समाजीकरण को महत्वपूर्ण क्यों माना जाता है?

- Ans
- 1. यह व्यक्तियों को समाज से पृथक करता है।
  - 2. यह सांस्कृतिक परिवर्तन को रोकता है।
  - 3. यह सहयोग से अधिक प्रतिस्पर्धा को प्रोत्साहित करता है।
  - 4. यह सांस्कृतिक मूल्यों और उत्तरदायित्वों की शिक्षा देता है।

Question ID : 4410091601920  
Option 1 ID : 4410096327282  
Option 2 ID : 4410096327283  
Option 3 ID : 4410096327285  
Option 4 ID : 4410096327284

Q.13 किसी सांस्कृतिक आइकॉन की समकालीन प्रासंगिकता को किस प्रकार से दर्शाया जाता है?

- Ans
- 1. इसके ऐतिहासिक महत्व की उपेक्षा करके
  - 2. इसके अध्ययन को केवल पाठ्यपुस्तकों तक सीमित करके
  - 3. आधुनिक समाज, कला और मूल्यों पर प्रभाव के द्वारा
  - 4. इसे असंबंधित प्रतीकों से प्रतिस्थापित करके

Question ID : 4410091547533

Option 1 ID : 4410096112992

Option 2 ID : 4410096112993

Option 3 ID : 4410096112991

Option 4 ID : 4410096112994

Q.14 Which curriculum approach puts the highest importance on societal needs and expectations?

- Ans
- 1. Reconstructionist approach
  - 2. Humanistic approach
  - 3. Classical academic approach
  - 4. Behaviorist approach

Question ID : 4410091572463

Option 1 ID : 4410096210787

Option 2 ID : 4410096210784

Option 3 ID : 4410096210785

Option 4 ID : 4410096210786

Q.15 अवधारणाओं के निर्माण में सहायता करने के लिए भाषा हमें क्या प्रदान करती है?

- Ans
- 1. शारीरिक कौशल (Physical skills)
  - 2. गणितीय सूत्र (Mathematical formulas)
  - 3. संवेग (Emotions)
  - 4. लेबल या नाम (Labels or names)

Question ID : 4410091610550

Option 1 ID : 4410096361085

Option 2 ID : 4410096361086

Option 3 ID : 4410096361084

Option 4 ID : 4410096361083

Q.16 एक शिक्षक एक बहुभाषी कक्षा के क्रियाकलाप को सरल बनाता है जहाँ विद्यार्थी हिंदी (SOV, अनुसर्ग) और अंग्रेजी (SVO, पूर्वसर्ग) वाक्य संरचनाओं की तुलना करते हैं। यह अनुदेशनात्मक अभिकल्प \_\_\_\_\_ को बढ़ावा देने के लिए मुख्य रूप से बहुभाषिता का उपयोग करता है।

- Ans
- 1. L1-L2 अभ्यास निर्माण (L1-L2 habit formation)
  - 2. व्यवकलक भाषागत विकास (Subtractive linguistic development)
  - 3. अधिभाषागत जागरूकता में वृद्धि (Enhanced metalingual awareness)
  - 4. नियमों के रटन स्मरण (Rote memorization of rules)

Question ID : 4410091550507  
Option 1 ID : 4410096124487  
Option 2 ID : 4410096124489  
Option 3 ID : 4410096124488  
Option 4 ID : 4410096124490

Q.17 पियाजे के सिद्धांत में, पूर्व संक्रियात्मक अवस्था के दौरान बच्चे की गणितीय समझ की प्रमुख विशेषता क्या है?

- Ans
- 1. बच्चा, गणितीय प्रश्नों को व्यवस्थित रूप से हल करने के लिए औपचारिक एल्गोरिदम का उपयोग करता है।
  - 2. बच्चा, अमूर्त तर्क और काल्पनिक समस्या-समाधान सटीकता से कर सकता है।
  - 3. बच्चा, संरक्षण को समझने में संघर्ष करता है और मात्रा असंगत रहती है।
  - 4. बच्चा, उल्लंघनीयता और तार्किक संक्रियाओं में पूर्ण निपुणता प्रदर्शित करता है।

Question ID : 4410091638262  
Option 1 ID : 4410096470737  
Option 2 ID : 4410096470735  
Option 3 ID : 4410096470734  
Option 4 ID : 4410096470736

Q.18 शिक्षाशास्त्र में अनुभवात्मक अधिगम का मुख्य केंद्र क्या है?

- Ans
- 1. करके सीखना
  - 2. व्याख्यान सुनना
  - 3. तथ्यों को याद करना
  - 4. प्रदर्शनों को देखना

Question ID : 4410091629277  
Option 1 ID : 4410096435194  
Option 2 ID : 4410096435196  
Option 3 ID : 4410096435195  
Option 4 ID : 4410096435197

Q.19 एक शिक्षक गणित में समस्या-समाधान कौशल को बेहतर बनाने में समकक्षी अनुशिक्षण (peer tutoring) की प्रभावशीलता का मूल्यांकन करना चाहता है। इस शैक्षिक पद्धति (pedagogical practice) का सबसे वैध आकलन करने के लिए कौन-सा उपागम सबसे उपयुक्त होगा?

- Ans
- 1. समकक्षी अनुशिक्षण (peer tutoring) के दौरान कक्षा में होने वाली अंतः क्रिया का प्रेक्षण करना
  - 2. विद्यार्थियों से यह पूछना कि उनके अनुसार उनके समस्या-समाधान में कितना सुधार हुआ है
  - 3. समकक्षी अनुशिक्षण के परिणामों की तुलना केवल व्याख्यान-आधारित शिक्षण से करना
  - 4. समकक्षी अनुशिक्षण से पहले और बाद में विद्यार्थियों का समान गणितीय मापदंड से परीक्षण करना

Question ID : 4410091629760  
Option 1 ID : 4410096437125  
Option 2 ID : 4410096437127  
Option 3 ID : 4410096437128  
Option 4 ID : 4410096437126

Q.20 What is a primary benefit of regular journal writing for self-understanding?

- Ans
- 1. Developing artistic skills
  - 2. Improving vocabulary
  - 3. Identifying recurring thoughts
  - 4. Increasing memory retention

Question ID : 4410091632862  
Option 1 ID : 4410096449568  
Option 2 ID : 4410096449566  
Option 3 ID : 4410096449567  
Option 4 ID : 4410096449569

Section : Discipline3

Q.1 बालकों का एक समूह दीवार पर विकेट बनाकर और अपने स्वयं के नियम बनाकर क्रिकेट का एक नया संस्करण बनाता है। यह परिदृश्य किस प्रकार के खेल का सर्वोत्तम उदाहरण है?

- Ans
- 1. रचनात्मक खेल (Constructive Play)
  - 2. कल्पनात्मक खेल (Imaginative Play)
  - 3. खोज या अन्वेषणात्मक खेल (Finding Out or Explorative Play)
  - 4. नियमों के साथ खेल (Play with Rules)

Question ID : 4410091602617  
Option 1 ID : 4410096330041  
Option 2 ID : 4410096330042  
Option 3 ID : 4410096330043  
Option 4 ID : 4410096330040

Q.2 अधिगम के 'प्रयास एवं त्रुटि (Trial and Error)' सिद्धांत के साथ सबसे निकटता से कौन संबद्ध है?

- Ans
- 1. जॉन वाटसन (John Watson)
  - 2. इवान पावलव (Ivan Pavlov)
  - 3. एडवर्ड थॉर्नडाइक (Edward Thorndike)
  - 4. जीन पियाजे (Jean Piaget)

Question ID : 4410091629849  
Option 1 ID : 4410096437483  
Option 2 ID : 4410096437481  
Option 3 ID : 4410096437482  
Option 4 ID : 4410096437484

Q.3 A teacher notices boys being encouraged for sports while girls are pushed toward arts. This reflects:

- Ans
- 1. Innate biological differences determining aptitude choices
  - 2. Societal influences shaping expectations and gender roles
  - 3. Individual preferences developing without external influence
  - 4. Institutional regulations strictly directing student participation

Question ID : 4410091568387  
Option 1 ID : 4410096194832  
Option 2 ID : 4410096194834  
Option 3 ID : 4410096194833  
Option 4 ID : 4410096194835

Q.4 एक प्राथमिक विद्यालय का शिक्षक, गणितीय तर्क और समस्या-समाधान कौशल को बढ़ावा देना चाहता है। गणितीय ज्ञान के बारे में आधुनिक उपागमों के अनुसार कौन-सी शिक्षण विधि सबसे प्रभावी होगी?

- Ans
- 1. विद्यार्थियों को ओपन एंडेड समस्या-समाधान क्रियाकलापों में शामिल करना
  - 2. गणितीय प्रक्रियाओं के लिए केवल प्रत्यक्ष अनुदेश प्रदान करना
  - 3. बिना चर्चा के पुनरावर्ती ड्रिल अभ्यास सौंपना
  - 4. केवल गणितीय तथ्यों को रटकर याद रखने पर ध्यान केंद्रित करना

Question ID : 4410091627348  
Option 1 ID : 4410096427678  
Option 2 ID : 4410096427679  
Option 3 ID : 4410096427681  
Option 4 ID : 4410096427680

Q.5 यदि कोई विशेषज्ञ शिक्षक सहकर्मियों को मार्गदर्शन दे रहा है और व्यावसायिक विकास का नेतृत्व कर रहा है, तो मुख्यतः कौन-सी योग्यता प्रदर्शित होती है?

- Ans
- 1. व्यावसायिक अनुचिंतन और संवृद्धि में न्यूनतम अभिरुचि
  - 2. सहपाठी अवलोकनों में सक्रिय रूप से शामिल होने के लिए अरुचि
  - 3. शिक्षण अभ्यासों में सुधार के लिए असाधारण क्षमता
  - 4. पारंपरिक और औपचारिक शिक्षण विधियों का पालन

Question ID : 4410091609059  
Option 1 ID : 4410096355155  
Option 2 ID : 4410096355154  
Option 3 ID : 4410096355152  
Option 4 ID : 4410096355153

Q.6 बच्चों को लक्षित करने वाले टेलीविजन विज्ञापनों में कार्टून और आकर्षक जिंगल (catchy jingles) का उपयोग करने का प्राथमिक उद्देश्य क्या है?

- Ans
- 1. बच्चों को स्वतंत्र निर्णय लेने के लिए प्रोत्साहित करना
  - 2. बच्चों के भाषा विकास में सुधार करना
  - 3. बच्चों को महत्वपूर्ण नैतिक महत्वों की शिक्षा देना
  - 4. बच्चों के अवधान और पुनःस्मरण को आकर्षित करना

Question ID : 4410091685037  
Option 1 ID : 4410096647053  
Option 2 ID : 4410096647050  
Option 3 ID : 4410096647052  
Option 4 ID : 4410096647051

Q.7 स्कूल को बिल्कुल नए सिरे से स्थापित करने के मॉडल में, स्कूल संस्कृति को आकार देने समय किस पहलू को प्राथमिकता देने की सबसे अधिक संभावना होती है?

- Ans
- 1. एकसमान अनुशासनात्मक नीतियां
  - 2. रटन कंठस्थीकरण पर बल
  - 3. राष्ट्रीय पाठ्यचर्या का सख्ती से अनुपालन
  - 4. विद्यार्थी-केंद्रित अधिगम वातावरण

Question ID : 4410091635620  
Option 1 ID : 4410096460501  
Option 2 ID : 4410096460502  
Option 3 ID : 4410096460500  
Option 4 ID : 4410096460499

Q.8 Which verb correctly completes the given sentence?

Anju and Poonam \_\_\_\_\_ coming home today?

- Ans
- 1. has
  - 2. are
  - 3. was
  - 4. is

Question ID : 4410091638914

Option 1 ID : 4410096473235

Option 2 ID : 4410096473233

Option 3 ID : 4410096473234

Option 4 ID : 4410096473232

Q.9 जब बच्चे विभिन्न आकृतियों की परिसीमा को मापने के लिए एक धागे (string) का उपयोग करते हैं और लंबाईयों की तुलना करते हैं, तो वे संभवतः क्या समझ रहे होते हैं?

- Ans
- 1. क्षेत्रफल, एक आकृति के भीतर के स्थान के रूप में
  - 2. परिमाप, एक आकृति के चारों ओर की कुल दूरी के रूप में
  - 3. लंबाई, एक ऐसे गुणधर्म के रूप में जिसका आकृतियों से कोई संबंध नहीं है
  - 4. आयतन, एक आकृति के बाहर के स्थान के रूप में

Question ID : 4410091629645

Option 1 ID : 4410096436667

Option 2 ID : 4410096436666

Option 3 ID : 4410096436669

Option 4 ID : 4410096436668

Q.10 विद्यालय की प्रभावशीलता को मापने के लिए सामान्यतः किस पद्धति का उपयोग किया जाता है?

- Ans
- 1. मानकीकृत परीक्षण अंक
  - 2. शहर के केंद्र से दूरी
  - 3. पाठ्येतर गतिविधियों की संख्या
  - 4. विद्यालय की दीवारों का रंग

Question ID : 4410091611183

Option 1 ID : 4410096363588

Option 2 ID : 4410096363590

Option 3 ID : 4410096363587

Option 4 ID : 4410096363589

Q.11 स्मृति प्रक्रिया में कौन-सी तीन मुख्य प्रक्रियाएँ शामिल हैं?

- Ans
- 1. पारगमन, भंडारण और संवेदना
  - 2. कूटलेखन, भंडारण और पुनरुद्धार
  - 3. प्रत्यक्षीकरण, भंडारण और ध्यान केंद्रण
  - 4. कूटलेखन, भंडारण और ध्यान

Question ID : 4410091682646

Option 1 ID : 4410096637840

Option 2 ID : 4410096637839

Option 3 ID : 4410096637841

Option 4 ID : 4410096637838

Q.12 किसी विद्यालय का प्रधानाचार्य शैक्षणिक नेतृत्व को लागू करके विद्यार्थियों के परिणामों में सुधार करना चाहता है। इस लक्ष्य को प्राप्त करने के लिए कौन-सी कार्यनीति सर्वाधिक उपयुक्त होगी?

- Ans
- 1. शिक्षकों को अतिरिक्त गैर-शैक्षणिक उत्तरदायित्व सौंपना।
  - 2. सहयोगात्मक शिक्षक कार्यशालाओं का आयोजन करना।
  - 3. गैर-शिक्षण कर्मचारियों के लिए प्रशासनिक बैठकों की संख्या बढ़ाना।
  - 4. केवल वार्षिक बजट योजना की गतिविधियों पर फोकस करना।

Question ID : 4410091626863

Option 1 ID : 4410096425801

Option 2 ID : 4410096425798

Option 3 ID : 4410096425799

Option 4 ID : 4410096425800

Q.13 निम्नलिखित में से कौन-सा, अधिगम पर परिपक्वता के प्रभाव की सटीक रूप से व्याख्या करता है?

- Ans
- 1. तीन महीने के बच्चे को पर्याप्त अभ्यास के साथ चलना सिखाया जा सकता है
  - 2. परिपक्वता केवल संवेगात्मक अधिगम को प्रभावित करती है, न कि शैक्षणिक अधिगम को
  - 3. शारीरिक, बौद्धिक और सामाजिक-संवेगात्मक तत्परता इस बात को प्रभावित करती है कि क्या सीखा जा सकता है
  - 4. अधिगम केवल प्रयास पर निर्भर करता है, उम्र पर नहीं

Question ID : 4410091572413

Option 1 ID : 4410096210613

Option 2 ID : 4410096210615

Option 3 ID : 4410096210614

Option 4 ID : 4410096210612

Q.14 निम्नलिखित में से किस संगठन में अंग्रेजी इसकी आधिकारिक भाषाओं में से एक है?

- Ans
- 1. ओपेक (OPEC)
  - 2. अरब लीग (Arab League)
  - 3. सार्क (SAARC)
  - 4. संयुक्त राष्ट्र (United Nations)

Question ID : 4410091682461

Option 1 ID : 4410096637112

Option 2 ID : 4410096637110

Option 3 ID : 4410096637113

Option 4 ID : 4410096637111

Q.15 निम्न में से कौन-सी विशेषता एक शिक्षक को सकारात्मक विद्यालय संस्कृति के निर्माण में सर्वाधिक सहायता करती है?

- Ans
- 1. सहयोगात्मक माइंडसेट
  - 2. केवल व्यक्तिगत उपलब्धि पर ध्यान देना
  - 3. पार्थक्य के लिए वरीयता
  - 4. प्रतिपुष्टि का विरोध

Question ID : 4410091619489

Option 1 ID : 4410096396812

Option 2 ID : 4410096396815

Option 3 ID : 4410096396813

Option 4 ID : 4410096396814

Q.16 प्राथमिक विद्यार्थियों को क्षेत्रफल की अवधारणा से परिचित कराते समय, कौन-सा शिक्षण उपागम उन्हें एकसमान इकाइयों के उपयोग के महत्व को समझने में सबसे अच्छी तरह मदद करता है?

- Ans
- 1. विद्यार्थियों को अपनी पसंद की किसी भी वस्तु का उपयोग करके क्षेत्रफल मापने की अनुमति दें।
  - 2. विद्यार्थियों से कहें कि वे समान टाइलों का उपयोग करके क्षेत्रफल को ढकें, न कि मिश्रित वस्तुओं का उपयोग करके।
  - 3. विद्यार्थियों को बिना माप लिए क्षेत्रफल का अनुमान लगाने दें।
  - 4. विद्यार्थियों को विभिन्न ज्यामितीय आकृतियों की रूपरेखा बनाने के लिए कहें।

Question ID : 4410091627346

Option 1 ID : 4410096427673

Option 2 ID : 4410096427670

Option 3 ID : 4410096427672

Option 4 ID : 4410096427671

Q.17 एक शिक्षक धैर्यपूर्वक सुनता है, सहभागिता को प्रोत्साहित करता है और विविध अधिगमकर्ताओं का समर्थन करता है। यह क्या दर्शाता है?

- Ans
- 1. लोकतांत्रिक कक्षा प्रबंधन
  - 2. प्रभावी सुविधा प्रदाता के कौशल
  - 3. अनुदेशात्मक तटस्थता
  - 4. वर्जनाहीन शिक्षण उपागम

Question ID : 4410091568390  
Option 1 ID : 4410096194844  
Option 2 ID : 4410096194845  
Option 3 ID : 4410096194847  
Option 4 ID : 4410096194846

Q.18 A teacher is correcting a news article in a class where the sentence reads: 'The family are planning a trip.' According to the contextual strategies taught for Indian learners, in a formal report, which revision would best adhere to subject-verb agreement?

- Ans
- 1. The family members are planning a trip.
  - 2. The families is planning a trip.
  - 3. The family is planning a trip.
  - 4. The family are plan a trip.

Question ID : 4410091606591  
Option 1 ID : 4410096345367  
Option 2 ID : 4410096345366  
Option 3 ID : 4410096345365  
Option 4 ID : 4410096345364

Q.19 पाठ्यक्रम (syllabi) को पूरा करने के अतिरिक्त शिक्षकों से क्या प्रमुख अपेक्षाएं हैं?

- Ans
- 1. केवल पाठ्यपुस्तक पूरा करने पर फोकस करना
  - 2. नैतिक और आर्थिक समस्याओं से बचना
  - 3. माता-पिता के साथ अंतःक्रिया सीमित करना
  - 4. शिक्षार्थियों के सर्वांगीण विकास को सुनिश्चित करना

Question ID : 4410091604386  
Option 1 ID : 4410096336719  
Option 2 ID : 4410096336721  
Option 3 ID : 4410096336720  
Option 4 ID : 4410096336718

Q.20 Which statement about English as a global language is NOT true?

- Ans
- 1. English is widely used internationally
  - 2. English appears frequently in global media
  - 3. Everyone in the world speaks English
  - 4. English is taught in many countries

Question ID : 4410091572402

Option 1 ID : 4410096210581

Option 2 ID : 4410096210582

Option 3 ID : 4410096210580

Option 4 ID : 4410096210583

Section : Discipline4

Q.1 शिक्षा में सामाजिक अध्ययन की पाठ्यपुस्तकों के महत्वपूर्ण होने का मुख्य कारण क्या है?

- Ans
- 1. ये ऐतिहासिक और नागरिक जागरूकता विकसित करने में मदद करते हैं
  - 2. ये समाज की संरचित समझ प्रदान करते हैं
  - 3. ये सांस्कृतिक और आर्थिक प्रणालियों की व्याख्या का मार्गदर्शन करते हैं
  - 4. ये सामाजिक और राजनीतिक मुद्दों के विश्लेषण का समर्थन करते हैं

Question ID : 4410091623638

Option 1 ID : 4410096413129

Option 2 ID : 4410096413128

Option 3 ID : 4410096413131

Option 4 ID : 4410096413130

Q.2 अमुक्त प्रश्नों के विपरीत, मुक्तोत्तर समस्याएं (open-ended problems) अधिगमकर्ताओं को किस प्रमुख-क्षमता को प्रदर्शित करने के लिए प्रोत्साहित करती हैं?

- Ans
- 1. सीमित पूर्वनिर्धारित विकल्पों में से त्वरित चयन
  - 2. पूर्व ज्ञान का लचीले रूप से उपयोग करते हुए रचनात्मक रणनीतियां
  - 3. बिना विस्तार के द्विक हाँ-नहीं का निर्णय
  - 4. पूर्व निर्धारित सही प्रत्युत्तरों से परिशुद्ध सुमेलन

Question ID : 4410091564522

Option 1 ID : 4410096179663

Option 2 ID : 4410096179661

Option 3 ID : 4410096179664

Option 4 ID : 4410096179662

Q.3 प्राथमिक स्तर पर EVS में 'जल' को एक थीम (theme) के रूप में पढ़ाने की प्रभावशीलता का मूल्यांकन करते समय कौन-सी रणनीति, गहन समझ सुनिश्चित करने के लिए सर्वोत्तम है?

- Ans
- 1. स्थानीय जल समस्याओं की उपेक्षा करना
  - 2. पाठ्यपुस्तक की परिभाषाओं पर निर्भर करना
  - 3. जल स्रोतों को दैनिक जीवन से जोड़ना
  - 4. महासागर की धाराओं पर विस्तार से चर्चा करना

Question ID : 4410091637686  
Option 1 ID : 4410096468333  
Option 2 ID : 4410096468331  
Option 3 ID : 4410096468330  
Option 4 ID : 4410096468332

Q.4 डिप्लोमा स्तर पर एक बहुभाषी पाठ्यचर्या में सभी विषयों में अंग्रेजी भाषा शिक्षण का समावेशन करने का सर्वोत्तम समर्थन कौन-सा सिद्धांत करता है?

- Ans
- 1. अंतःविषयक संचार के लिए अंग्रेजी को एकीकृत करना
  - 2. अंग्रेजी की तुलना में मातृभाषा को प्राथमिकता देना
  - 3. केवल अंग्रेजी व्याकरण के नियमों पर ध्यान केंद्रित करना
  - 4. अंग्रेजी केवल साहित्य की कक्षाओं में पढ़ाना

Question ID : 4410091622396  
Option 1 ID : 4410096408358  
Option 2 ID : 4410096408357  
Option 3 ID : 4410096408356  
Option 4 ID : 4410096408359

Q.5 एक प्राथमिक विद्यालय की शिक्षिका जल संरक्षण पर एक ऐसी परियोजना तैयार करना चाहती है जो विद्यार्थियों को प्रेरणित करने, प्रयोग करने, चर्चा करने और सहयोगात्मक रूप से निष्कर्ष निकालने के लिए प्रोत्साहित करती है। वह यह भी सुनिश्चित करती है कि विभिन्न क्षमताओं और पृष्ठभूमियों वाले विद्यार्थी इसमें भाग लें। पर्यावरण अध्ययन में इस विषय को पढ़ाने के लिए उनकी पद्धति का सबसे अच्छा उदाहरण कौन-सा उपागम है?

- Ans
- 1. वह समावेशिता को छोड़कर, केवल वैज्ञानिक प्रक्रिया पर ही ध्यान केंद्रित करती है।
  - 2. वह प्रदर्शन सहित पारंपरिक व्याख्यान-आधारित उपागम अपनाती है।
  - 3. वह अनुभवात्मक और समावेशी परियोजना-आधारित उपागम अपनाती है।
  - 4. वह मुख्य रूप से पाठ्यपुस्तक पढ़ने और लिखित असाइनमेंट पर निर्भर रहती है।

Question ID : 4410091614396  
Option 1 ID : 4410096376404  
Option 2 ID : 4410096376402  
Option 3 ID : 4410096376403  
Option 4 ID : 4410096376401

Q.6 अंग्रेजी के लिए अच्छी तरह डिज़ाइन की गई इकाई योजना में \_\_\_\_\_ शामिल होने/होनी चाहिए।

- Ans
- 1. विद्यार्थियों के क्रियाकलाप और असाइनमेंट की समय सारिणी
  - 2. उद्देश्य, अधिगम क्रियाकलाप और शिक्षण संसाधन
  - 3. केवल पाठ्यपुस्तक के अध्याय और अभ्यास
  - 4. केवल अंतिम परीक्षा के लिए अंक वितरण योजना

Question ID : 4410091646437  
Option 1 ID : 4410096501985  
Option 2 ID : 4410096501983  
Option 3 ID : 4410096501982  
Option 4 ID : 4410096501984

Q.7 विद्यालय में PTA की प्राथमिक भूमिका क्या होती है?

- Ans
- 1. कक्षाओं में शिक्षकों को प्रतिस्थापित करना
  - 2. विद्यालय की सभी गतिविधियों के लिए स्वतंत्र रूप से वित्तपोषण करना
  - 3. अभिभावकों को विद्यालय संबंधी निर्णय लेने की प्रक्रिया में भाग लेने की अनुमति देना
  - 4. परीक्षा के दौरान विद्यार्थियों का पर्यवेक्षण करना

Question ID : 4410091572439  
Option 1 ID : 4410096210696  
Option 2 ID : 4410096210698  
Option 3 ID : 4410096210697  
Option 4 ID : 4410096210699

Q.8 अंग्रेजी भाषा शिक्षण के लिए पाठ योजना के संदर्भ में, किसी विशेष थीम या टॉपिक के लिए कई सप्ताहों तक चलने वाले पाठों की श्रृंखला को व्यवस्थित करते समय यूनिट योजना की प्राथमिक भूमिका क्या होती है?

- Ans
- 1. यूनिट योजना मुख्य रूप से कक्षा में विद्यार्थियों की उपस्थिति को दर्ज करने के लिए एक औपचारिक रिकॉर्ड के रूप में कार्य करती है।
  - 2. एक यूनिट योजना में कक्षा की गतिविधियों और केवल एक क्लास पीरियड के लिए समय आवंटन का वर्णन किया जाता है।
  - 3. एक यूनिट योजना केवल आकलन उपकरणों, ग्रेडिंग मानदंडों और मूल्यांकन अनुसूचियों पर केंद्रित होती है।
  - 4. एक यूनिट योजना व्यापक उद्देश्यों की रूपरेखा तैयार करती है और एक सुसंगत अधिगम अनुभव के लिए पाठों को व्यवस्थित करता है।

Question ID : 4410091614201  
Option 1 ID : 4410096375624  
Option 2 ID : 4410096375622  
Option 3 ID : 4410096375623  
Option 4 ID : 4410096375621

Q.9 मूल्यांकन में मुक्तोत्तर (open-ended) प्रश्नों का उपयोग करने का एक मुख्य लाभ निम्नलिखित में से कौन-सा है?

- Ans
- 1. ये त्वरित और संक्षिप्त अनुक्रिया सुनिश्चित करते हैं
  - 2. ये शोधकर्ताओं के लिए विश्लेषण प्रक्रिया को सरल बनाते हैं
  - 3. ये उत्तरदाताओं को अपने वास्तविक विचार व्यक्त करने देते हैं
  - 4. ये अनुक्रियाओं को पूर्वनिर्धारित विकल्पों तक सीमित कर देते हैं

Question ID : 4410091661450  
Option 1 ID : 4410096559387  
Option 2 ID : 4410096559386  
Option 3 ID : 4410096559384  
Option 4 ID : 4410096559385

Q.10 एक सामाजिक विज्ञान शिक्षक विद्यार्थियों को वर्ष 1991 से शैक्षिक समता पर व्यवसायीकरण के प्रभाव की तुलना करने के लिए कहता है। किस विद्यार्थी का अवलोकन संदर्भ से सुमेलित है?

- Ans
- 1. ग्रामीण विद्यार्थियों के लिए लागत कम होने के कारण व्यवसायीकरण के कारण समानता में सुधार होता है।
  - 2. निजी कोचिंग के विस्तार के साथ सार्वजनिक निधि में वृद्धि होती है।
  - 3. व्यवसायीकरण से सभी आय समूहों के लिए समान शैक्षिक परिणाम प्राप्त होते हैं।
  - 4. उच्च शुल्क और कोचिंग संस्कृति शिक्षा में वर्ग विभाजन को सुदृढ़ करती है।

Question ID : 4410091612047  
Option 1 ID : 4410096367014  
Option 2 ID : 4410096367013  
Option 3 ID : 4410096367012  
Option 4 ID : 4410096367011

Q.11 सामाजिक अध्ययन की पाठ्यपुस्तकों का समालोचनात्मक विश्लेषण कक्षा शिक्षण के लिए क्यों महत्वपूर्ण है?

- Ans
- 1. यह कक्षा में शिक्षक द्वारा स्पष्टीकरण की आवश्यकता को समाप्त करता है।
  - 2. यह सुनिश्चित करता है कि सभी अध्याय समान लंबाई के हों।
  - 3. यह पूर्वाग्रह और विविध परिप्रेक्ष्यों की पहचान करता है।
  - 4. यह प्रत्येक विद्यार्थी को संपूर्ण पुस्तक कंठस्थ करने के लिए प्रेरित करता है।

Question ID : 4410091641190  
Option 1 ID : 4410096481916  
Option 2 ID : 4410096481914  
Option 3 ID : 4410096481913  
Option 4 ID : 4410096481915

Q.12 एक शिक्षक पारिवारिक संबंधों पर एक विषय की शुरुआत विद्यार्थियों से यह पूछकर करती है, कि 'आपके साथ कौन रहता है?' और उन्हें अपने घरों के बारे में कहानियां साझा करने के लिए प्रोत्साहित करती है। इस परिदृश्य में कौन-सी शिक्षण उपागम सबसे उपयुक्त है?

- Ans
- 1. अनुभवात्मक अधिगम उपागम (Experiential learning approach)
  - 2. व्याख्यान-आधारित शिक्षण उपागम (Lecture-based teaching approach)
  - 3. परीक्षा-उन्मुख शिक्षण उपागम (Examination-oriented teaching approach)
  - 4. पाठ्यपुस्तक-केंद्रित शिक्षण उपागम (Textbook-centred teaching approach)

Question ID : 4410091617215

Option 1 ID : 4410096387762

Option 2 ID : 4410096387761

Option 3 ID : 4410096387759

Option 4 ID : 4410096387760

Q.13 प्रारंभिक और माध्यमिक शिक्षा के लिए राष्ट्रीय पाठ्यचर्या (1988) द्वारा किस पाठ्यचर्या क्षेत्र को NPE (1986) में निर्दिष्ट सभी मुख्य घटकों के संदर्भ में शिक्षा प्रदान करने के लिए सबसे प्रभावी टूल के रूप में वर्णित किया गया है?

- Ans
- 1. विज्ञान और गणित
  - 2. शारीरिक शिक्षा
  - 3. कला और शिल्प
  - 4. सामाजिक विज्ञान

Question ID : 4410091605034

Option 1 ID : 4410096339303

Option 2 ID : 4410096339302

Option 3 ID : 4410096339305

Option 4 ID : 4410096339304

Q.14 शिक्षा में पाठ नियोजन का प्राथमिक उद्देश्य क्या है?

- Ans
- 1. विद्यार्थियों का आकलन करना
  - 2. अनुदेशन को व्यवस्थित करना
  - 3. गृहकार्य देना
  - 4. कक्षा को अलंकृत करना

Question ID : 4410091633031

Option 1 ID : 4410096450243

Option 2 ID : 4410096450242

Option 3 ID : 4410096450244

Option 4 ID : 4410096450245

Q.15 अंग्रेजी के पाठों के लिए इकाई योजना में डिजिटल संसाधनों को एकीकृत करते समय, विद्यार्थी सहभागिता और अधिगम परिणामों को अधिकतम करने के लिए सबसे प्रभावी रणनीति क्या है?

- Ans
- 1. सहयोगात्मक अधिगम कार्यों के साथ उद्देश्यों के अनुरूप टूल का चयन करना
  - 2. विद्यार्थियों को बिना किसी मार्गदर्शन के किसी भी डिजिटल टूल को चुनने देना
  - 3. पाठ की विविधता बढ़ाने के लिए डिजिटल संसाधनों को यादृच्छिक रूप से समाविष्ट करना
  - 4. पाठ के टॉपिक को प्रस्तुत करने के लिए केवल शिक्षक द्वारा चयनित वीडियो का उपयोग करना

Question ID : 4410091681860

Option 1 ID : 4410096634813

Option 2 ID : 4410096634811

Option 3 ID : 4410096634812

Option 4 ID : 4410096634810

Q.16 सहभागी नियोजन (collaborative planning) के माध्यम से कक्षा अनुदेशन में सुधार लाने के उद्देश्य से कार्यरत विद्यालय के प्रधानाचार्य के लिए कौन-सी नेतृत्व शैली सबसे उपयुक्त है?

- Ans
- 1. सख्त नीति प्रवर्तन के साथ प्रशासनिक नेतृत्व
  - 2. अनुशासन पर केंद्रित स्वेच्छाचारी नेतृत्व (Autocratic leadership)
  - 3. अनुपालन के लिए पुरस्कार के साथ संव्यवहारिक नेतृत्व (Transactional leadership)
  - 4. शिक्षक विकास पर जोर देने वाला शिक्षणशास्त्रीय नेतृत्व

Question ID : 4410091642798

Option 1 ID : 4410096488085

Option 2 ID : 4410096488087

Option 3 ID : 4410096488088

Option 4 ID : 4410096488086

Q.17 शैक्षिक प्रशासक यह कैसे सुनिश्चित करते हैं कि विद्यालय, कानूनी सीमाओं के भीतर संचालित हों?

- Ans
- 1. उन्नत कक्षाओं में अध्यापन करके
  - 2. विद्यार्थी अधिकारों का अनुपालन कराकर
  - 3. नए विद्यार्थियों की नियुक्ति करके
  - 4. मानकीकृत परीक्षाएँ तैयार करके

Question ID : 4410091604687

Option 1 ID : 4410096337913

Option 2 ID : 4410096337914

Option 3 ID : 4410096337912

Option 4 ID : 4410096337915

Q.18 शिक्षण-अधिगम प्रक्रिया में, पाठ्यपुस्तकें मुख्य रूप से कौन-सा कार्य करती हैं?

- Ans
- 1. शिक्षक के अनुदेशन को पूर्ण रूप से प्रतिस्थापित करना
  - 2. संरचित और व्यवस्थित अधिगम का मार्गदर्शन करना
  - 3. कक्षा में सृजनात्मक गतिविधियों को सीमित करना
  - 4. परिचर्चा की आवश्यकता को समाप्त करना

Question ID : 4410091641210

Option 1 ID : 4410096481994

Option 2 ID : 4410096481993

Option 3 ID : 4410096481995

Option 4 ID : 4410096481996

Q.19 प्रश्न तैयार करते समय विद्यार्थियों के उत्तरों का अनुमान लगाना क्यों उपयोगी है?

- Ans
- 1. कक्षा में विद्यार्थियों की संख्या कम करने के लिए
  - 2. उत्तर देने से बचने के लिए
  - 3. पद-व्याख्या करने और परिचर्चा को निर्देशित करने की तैयारी के लिए
  - 4. ग्रेडिंग को आसान बनाने के लिए

Question ID : 4410091608514

Option 1 ID : 4410096352971

Option 2 ID : 4410096352970

Option 3 ID : 4410096352969

Option 4 ID : 4410096352968

Q.20 शिक्षाशास्त्र में पर्यावरण अध्ययन का अध्ययन करना महत्वपूर्ण क्यों है?

- Ans
- 1. केवल प्रयोगशाला आधारित विज्ञान पाठ्यक्रम पर फोकस करता है
  - 2. एकल वैज्ञानिक विद्याशाखा में महारत हासिल करने को बढ़ावा देता है
  - 3. शारीरिक तंदुरुस्ती और खेल कौशल को बढ़ाता है
  - 4. संधारणीयता और संबंधों के बारे में जागरूकता विकसित करता है

Question ID : 4410091611676

Option 1 ID : 4410096365562

Option 2 ID : 4410096365561

Option 3 ID : 4410096365559

Option 4 ID : 4410096365560

Section : Discipline5

Q.1 ब्लूम वर्गीकरण का कौन-सा प्रक्षेत्र, ज्ञान के पुनःस्मरण या प्रत्यभिज्ञान से संबंधित है?

- Ans  1. संज्ञानात्मक प्रक्षेत्र  
 2. भावात्मक प्रक्षेत्र  
 3. संवेगात्मक प्रक्षेत्र  
 4. मनोचालक प्रक्षेत्र

Question ID : 4410091690698  
 Option 1 ID : 4410096668964  
 Option 2 ID : 4410096668963  
 Option 3 ID : 4410096668965  
 Option 4 ID : 4410096668962

Q.2 यदि कोई शिक्षक यह देखता है कि विद्यार्थियों का जेंडर-संबंधी व्यवहार पारिवारिक और सामाजिक मान्यताओं को दर्शाता है, तो कौन-सी प्रक्रिया देखी जा रही है?

- Ans  1. जेंडर समाजीकरण (Gender socialisation)  
 2. आनुवंशिक वंशागति (Genetic inheritance)  
 3. जैविक अनुकूलन (Biological adaptation)  
 4. लैंगिक विभेदन (Sexual differentiation)

Question ID : 4410091609849  
 Option 1 ID : 4410096358310  
 Option 2 ID : 4410096358311  
 Option 3 ID : 4410096358309  
 Option 4 ID : 4410096358308

Q.3 कक्षाओं में विज्ञान किटों को कार्यान्वित करते समय, उन्हें स्वतंत्र गतिविधियों के रूप में उपयोग करने के बजाय पाठ्यचर्या के साथ एकीकृत करने का एक महत्वपूर्ण कारण कौन-सा है?

- Ans  1. वे विद्यार्थियों के मूल्यांकन के लिए उपयोग की जाने वाली एकमात्र विधि के रूप में कार्य करते हैं।  
 2. अलग-अलग गतिविधियों के रूप में उपयोग करने पर वे अधिक मनोरंजक होते हैं।  
 3. वे गहन अर्थबोध के लिए व्यावहारिक प्रयोगों को सिद्धांत के साथ जोड़ते हैं।  
 4. इनका उपयोग मुख्यतः शिक्षण के अतिरिक्त कक्षा-समय को समायोजित करने के लिए किया जाता है।

Question ID : 4410091683284  
 Option 1 ID : 4410096640096  
 Option 2 ID : 4410096640094  
 Option 3 ID : 4410096640095  
 Option 4 ID : 4410096640097

Q.4 A student struggles with reading fluency, decoding, spelling, and sometimes speech. Which learning disability do they most likely have?

- Ans
- 1. Dyscalculia
  - 2. Language Processing Disorder
  - 3. Dysgraphia
  - 4. Dyslexia

Question ID : 4410091635657

Option 1 ID : 4410096460636

Option 2 ID : 4410096460638

Option 3 ID : 4410096460637

Option 4 ID : 4410096460635

Q.5 कौन-सा युग्म भाषा अधिगम के लिए LSRW में श्रवण और पठन कौशल के एकीकरण की सर्वोत्तम रूप में व्याख्या करता है?

- Ans
- 1. शब्दावली याद करना और हस्तलेखन का अभ्यास करना
  - 2. एक कविता लिखना और उसके बारे में एक चित्र बनाना
  - 3. कहानी सुनना और फिर उसका सारांश पढ़ना
  - 4. बहस में बोलना और समीकरणों को हल करना

Question ID : 4410091641191

Option 1 ID : 4410096481920

Option 2 ID : 4410096481918

Option 3 ID : 4410096481917

Option 4 ID : 4410096481919

Q.6 निम्नलिखित में से कौन-सी रणनीति, शिक्षकों को भारतीय कक्षा में जेंडर और सांस्कृतिक विविधता दोनों को संबोधित करने और समावेशिता को बढ़ावा देने में सबसे अच्छी तरह सक्षम बनाती है?

- Ans
- 1. कक्षा में समान व्यवहार सुनिश्चित करने के लिए मतभेदों की उपेक्षा करना
  - 2. कक्षा में सभी विद्यार्थियों को समान संसाधन उपलब्ध कराना
  - 3. पाठ्यचर्या में विद्यार्थियों के विविध दृष्टिकोणों को शामिल करना
  - 4. समूह की संरचना की योजना बनाए बिना समूह-कार्य देना

Question ID : 4410091683338

Option 1 ID : 4410096640279

Option 2 ID : 4410096640278

Option 3 ID : 4410096640280

Option 4 ID : 4410096640281

Q.7 EFL की कक्षाओं में अनुदेश सामग्री इतनी प्रभावशाली भूमिका क्यों निभाती है?

- Ans
- 1. वे कार्य बोझ कम करते हैं।
  - 2. वे छोटी कक्षाएं सुनिश्चित करते हैं।
  - 3. वे शिक्षार्थियों का ध्यान आकर्षित करते हैं।
  - 4. वे आवश्यकताओं को समाप्त करते हैं।

Question ID : 4410091606085

Option 1 ID : 4410096343365

Option 2 ID : 4410096343366

Option 3 ID : 4410096343364

Option 4 ID : 4410096343367

Q.8 नियमित शिक्षिका सुश्री राव ने नोटिस किया कि प्रिया को चलने में कठिनाई का सामना करना पड़ रहा है और स्पोर्ट्स के दौरान उसके शरीर में झटकेदार संचलन दिखाई देता है। PRASHAST के भाग-1 को पूरा करने के बाद, किसी भी चिकित्सीय रेफरल से पहले सुश्री राव को किस चरण को प्राथमिकता देनी चाहिए?

- Ans
- 1. UDID पोर्टल को स्किप करके प्रत्यक्ष रूप से आवेदन करना
  - 2. प्रिया के लिए थेरेपी सत्र स्वयं प्रारंभ करना
  - 3. शीघ्र कार्रवाई के लिए मनोचिकित्सक से संपर्क करना
  - 4. प्रेक्षण चेकलिस्ट के निष्कर्षों को प्रिया के अभिभावक के साथ साझा करना

Question ID : 4410091609429

Option 1 ID : 4410096356638

Option 2 ID : 4410096356637

Option 3 ID : 4410096356639

Option 4 ID : 4410096356636

Q.9 निम्नलिखित में से कौन-सा कार्य जेंडर समानता को सुदृढ़ करने में शिक्षक का कार्य नहीं है?

- Ans
- 1. जेंडर-संवेदनशील कक्षा संरचना का परिचय देने के लिए कार्यशालाओं का संचालन करना
  - 2. जेंडर के आधार पर योग्यता समूहन
  - 3. कक्षा व्यवस्था और अंतःक्रिया के जेंडर-समावेशी तरीकों को उपयोग में लाना
  - 4. जेंडर जागरूकता और संवेदीकरण कार्यक्रमों में भाग लेना

Question ID : 4410091548391

Option 1 ID : 4410096116268

Option 2 ID : 4410096116271

Option 3 ID : 4410096116269

Option 4 ID : 4410096116270

Q.10 वैज्ञानिक ज्ञान निर्माण में आगमनात्मक और निगमनात्मक तर्क के बीच मुख्य अंतर क्या है?

- Ans
- 1. आगमन में केवल प्रयोगों का उपयोग होता है जबकि निगमन में सिद्धांत का उपयोग होता है।
  - 2. विज्ञान अधिगम में दोनों प्रकार के तर्क समान रूप से कार्य करते हैं।
  - 3. निगमन, विशिष्ट मामलों से सामान्य निष्कर्षों की ओर बढ़ता है।
  - 4. आगमन, विशिष्ट अवलोकनों से सामान्य निष्कर्षों की ओर बढ़ता है।

Question ID : 4410091683264

Option 1 ID : 4410096640049

Option 2 ID : 4410096640048

Option 3 ID : 4410096640047

Option 4 ID : 4410096640046

Q.11 एक विद्यार्थी गिनती करते समय वस्तुओं को दहाई और इकाई के समूहों में बांटता है। यह के बोध को दर्शाता है।

- Ans
- 1. यादृच्छिक समूहीकरण (Random grouping)
  - 2. छूटी हुई संख्या (Skip counting)
  - 3. आकृतियों को पहचानने (Shape identification)
  - 4. संख्याओं में स्थानीय मान (Place value in numbers)

Question ID : 4410091570255

Option 1 ID : 4410096202009

Option 2 ID : 4410096202011

Option 3 ID : 4410096202012

Option 4 ID : 4410096202010

Q.12 निम्नलिखित में से कौन-सा विकल्प सातक विद्यार्थियों में रचनात्मक समस्या-समाधान को बढ़ावा देने में मनोविनोदात्मक (recreational) गणित की भूमिका की सर्वोत्तम रूप से व्याख्या करता है?

- Ans
- 1. अन्वेषण के बिना उन्नत गणितीय प्रमाणों को स्मरण करना
  - 2. गणितीय पहेलियों से जुड़कर नए उपागम विकसित करना
  - 3. केवल ऐतिहासिक गणितज्ञों की जीवनीयों का अध्ययन करना
  - 4. यथार्थता के लिए केवल समयबद्ध गणितीय अभ्यासों में भाग लेना

Question ID : 4410091626518

Option 1 ID : 4410096424446

Option 2 ID : 4410096424444

Option 3 ID : 4410096424447

Option 4 ID : 4410096424445

Q.13 शिक्षा में समावेशन का प्राथमिक लक्ष्य क्या है?

- Ans
- 1. क्षमताओं के आधार पर विद्यार्थियों को अलग करना
  - 2. विशेषतः शैक्षणिक उत्कृष्टता पर ध्यान केंद्रित करना
  - 3. सहभागिता में वृद्धि करना और अधिगम बाधाओं को हटाना
  - 4. शिक्षा की अपेक्षा आर्थिक विकास को अधिक प्राथमिकता देना

Question ID : 4410091639830

Option 1 ID : 4410096476536

Option 2 ID : 4410096476535

Option 3 ID : 4410096476534

Option 4 ID : 4410096476537

Q.14 कौन-सा शब्द गणित की प्रकृति का सटीक वर्णन करता है?

- Ans
- 1. संवेगात्मक (Emotional)
  - 2. साहित्यिक (Literary)
  - 3. भौतिक (Physical)
  - 4. अमूर्त (Abstract)

Question ID : 4410091633760

Option 1 ID : 4410096453132

Option 2 ID : 4410096453133

Option 3 ID : 4410096453130

Option 4 ID : 4410096453131

Q.15 कौन-सी नीति, पाठ्यचर्या और पाठ्येतर गतिविधियों दोनों में जेंडर समानता के प्रति विद्यालय की प्रतिबद्धता का सर्वोत्तम उदाहरण प्रस्तुत करती है?

- Ans
- 1. लड़कियों और लड़कों के लिए अलग-अलग क्लब उपलब्ध कराना
  - 2. मुख्यतः जेंडर-तटस्थ यूनिफॉर्म को अपनाने पर फोकस करना
  - 3. जेंडर भेद के आधार पर बैठक व्यवस्था की अनुमति देना
  - 4. पाठ्यचर्या, खेल और नेतृत्व में समान प्रतिनिधित्व सुनिश्चित करना

Question ID : 4410091683332

Option 1 ID : 4410096640254

Option 2 ID : 4410096640255

Option 3 ID : 4410096640257

Option 4 ID : 4410096640256

Q.16 निम्नलिखित में से कौन-सा, शिक्षा के संदर्भ में जेंडर समानता का सटीक वर्णन करता है?

- Ans
- 1. लड़कों और लड़कियों को अलग-अलग विषय पढ़ाना
  - 2. शैक्षणिक संस्थानों में केवल लड़कियों को छात्रवृत्ति प्रदान करना
  - 3. खेल गतिविधियों में केवल लड़कों को ही भाग लेने की अनुमति देना
  - 4. सभी जेंडर के विद्यार्थियों को समान अवसर प्रदान करना

Question ID : 4410091683311

Option 1 ID : 4410096640173

Option 2 ID : 4410096640171

Option 3 ID : 4410096640172

Option 4 ID : 4410096640170

Q.17 एंडरसन और क्रेथवोल ने 2001 में मूल ब्लूम टैक्सोनॉमी में कौन-सा संशोधन किया था?

- Ans
- 1. उन्होंने भावात्मक क्षेत्र को हटा दिया
  - 2. उन्होंने केवल ज्ञान अर्जन पर फोकस किया
  - 3. उन्होंने पदानुक्रम में और स्तर जोड़े
  - 4. उन्होंने संज्ञाओं के स्थान पर क्रियाओं का उपयोग करने के लिए पदानुक्रम को परिवर्तित कर दिया

Question ID : 4410091608804

Option 1 ID : 4410096354136

Option 2 ID : 4410096354139

Option 3 ID : 4410096354138

Option 4 ID : 4410096354137

Q.18 एक विज्ञान क्लब स्कूल में प्लास्टिक के उपयोग को कम करने के लिए एक पर्यावरण क्लब पहल की योजना बना रहा है। विद्यार्थियों में स्थायी व्यवहार परिवर्तन को बढ़ावा देने के लिए गतिविधियों का कौन-सा संयोजन सबसे अधिक प्रभावी होगा?

- Ans
- 1. प्लास्टिक प्रदूषण जागरूकता पर पर्वे वितरित करना
  - 2. उपयोग की निगरानी के साथ पुनः उपयोग योग्य बैग अभियान शुरू करना
  - 3. एक बार कैपस की सफाई का अभियान आयोजित करना
  - 4. स्कूल के गलियारों में पोस्टर लगाना

Question ID : 4410091616067

Option 1 ID : 4410096383206

Option 2 ID : 4410096383209

Option 3 ID : 4410096383207

Option 4 ID : 4410096383208

Q.19 इनमें से कौन-सा, मनोरंजक गणितीय पहेली का एक सुप्रसिद्ध उदाहरण है?

- Ans
- 1. व्याकरण अभ्यास (Grammar exercises)
  - 2. ऐतिहासिक समयरेखाएँ (Historical timelines)
  - 3. आवर्त सारणी (Periodic tables)
  - 4. सुडोकू (Sudoku)

Question ID : 4410091670023

Option 1 ID : 4410096590931

Option 2 ID : 4410096590929

Option 3 ID : 4410096590928

Option 4 ID : 4410096590930

Q.20 विद्यालय-व्यापी विज्ञान प्रदर्शनी आयोजित करने की प्राथमिक शैक्षिक सार्थकता, कौन-सा अनन्य शिक्षणशास्त्रीय अवसर प्रदान करने में निहित है?

- Ans
- 1. स्कॉलर के बीच आपसी संवाद का सुगमीकरण
  - 2. विषयवस्तु स्मरण का अभ्यास
  - 3. सहायियों के बीच प्रतिस्पर्धा को प्रोत्साहन
  - 4. दत्त सामग्री संग्रह कौशल का मापन

Question ID : 4410091560069

Option 1 ID : 4410096162400

Option 2 ID : 4410096162398

Option 3 ID : 4410096162399

Option 4 ID : 4410096162401

