

**FSSAI  
Assistant**

**Previous Year Paper  
03 Nov, 2023**

**Adda247**

Adda247

# Test Prime

**ALL EXAMS, ONE SUBSCRIPTION**



**1,00,000+**  
Mock Tests



**Personalised**  
Report Card



**Unlimited**  
Re-Attempt



**600+**  
Exam Covered



**25,000+** Previous  
Year Papers



**500%**  
Refund



**ATTEMPT FREE MOCK NOW**



FOOD SAFETY AND STANDARDS  
AUTHORITY OF INDIA

*Inspiring Trust, Assuring Safe & Nutritious Food*  
Ministry of Health and Family Welfare, Government of India

Participant ID	
Participant Name	
Test Center Name	
Test Date	03/11/2023
Test Time	9:00 AM - 12:00 PM
Subject	Assistant

Section : General Intelligence

Q.1 निम्नलिखित संख्या प्रतीक श्रृंखला का संदर्भ लें और उसके बाद आने वाले प्रश्न का उत्तर दें।

(बाएं) 3 @ 4 % 6 7 & % 3 8 9 7 & 5 % 4 2 3 # 2 % 8 9 & % 4 3 6 & 3 % 4 @ 4 5 3 # 7 8  
& 6 % 7 8 # 4 @ 8 @ 4 8 9 % 8 % 3 2 # 6 @ (दाएं)

उपरोक्त श्रृंखला में कितनी विषम संख्याएं हैं, जिनके ठीक बाद एक सम संख्या है और ठीक पहले एक प्रतीक है?  
(गिनती केवल बाएं से दाएं करें।)

- Ans
- ✓ 1. 4
  - ✗ 2. 3
  - ✗ 3. 6
  - ✗ 4. 5

Question ID : 630680406274  
Option 1 ID : 6306801584321  
Option 2 ID : 6306801584320  
Option 3 ID : 6306801584323  
Option 4 ID : 6306801584322

Status : Answered

Chosen Option : 1

Q.2 दिए गए कथनों और निष्कर्षों को ध्यानपूर्वक पढ़ें। यह मानते हुए कि कथनों में दी गई जानकारी सत्य है, भले ही यह सामान्यतः ज्ञात तथ्यों से भिन्न प्रतीत होती हो, निर्णय लें कि दिए गए निष्कर्षों में से कौन-सा/से निष्कर्ष, तार्किक रूप से कथनों का अनुसरण करता है/करते हैं।

कथन:

कोई भी फिल्म, बैटरी नहीं है।  
सभी स्नेप, फिल्म हैं।

निष्कर्ष:

I. कुछ बैटरी, स्नेप हैं।  
II. कोई भी बैटरी, स्नेप नहीं है।

- Ans
- ✗ 1. निष्कर्ष I और II, दोनों अनुसरण करते हैं।
  - ✗ 2. केवल निष्कर्ष I अनुसरण करता है।
  - ✗ 3. या तो निष्कर्ष I या II अनुसरण करता है।
  - ✓ 4. केवल निष्कर्ष II अनुसरण करता है।

Question ID : 630680406270

Option 1 ID : 6306801584306

Option 2 ID : 6306801584304

Option 3 ID : 6306801584307

Option 4 ID : 6306801584305

Status : Answered

Chosen Option : 3

Q.3 एक निश्चित कूट भाषा में, 'REALITY' को '24-12-54' लिखा जाता है और 'CREATOR' को '26-1-53' लिखा जाता है। उसी भाषा में 'DOUBLED' को किस प्रकार लिखा जाएगा?

- Ans
- ✗ 1. 40-2-23
  - ✓ 2. 40-2-21
  - ✗ 3. 42-2-21
  - ✗ 4. 40-1-20

Question ID : 630680406275

Option 1 ID : 6306801584325

Option 2 ID : 6306801584326

Option 3 ID : 6306801584327

Option 4 ID : 6306801584324

Status : Answered

Chosen Option : 2

Q.4 If 2 is added to each even digit and 1 is subtracted from each odd digit in the numbers given below and then all these numbers are arranged in descending order from left to right, which number will be second from the right end?

(Left) 472, 267, 956, 346, 797 (Right)

- Ans
- 1. 264
  - 2. 468
  - 3. 268
  - 4. 486

Question ID : 630680406284

Option 1 ID : 6306801584360

Option 2 ID : 6306801584362

Option 3 ID : 6306801584361

Option 4 ID : 6306801584363

Status : Answered

Chosen Option : 3

Q.5 उस विकल्प का चयन करें, जो पांचवीं संख्या से उसी प्रकार संबंधित है, जिस प्रकार दूसरी संख्या, पहली संख्या से और चौथी संख्या, तीसरी संख्या से संबंधित है।

11 : 66 :: 13 : 104 :: 17 : ?

- Ans
- 1. 170
  - 2. 204
  - 3. 289
  - 4. 187

Question ID : 630680406282

Option 1 ID : 6306801584352

Option 2 ID : 6306801584354

Option 3 ID : 6306801584355

Option 4 ID : 6306801584353

Status : Answered

Chosen Option : 1

Q.6 चार अक्षर-समूह युग्म दिए गए हैं, जिनमें से तीन किसी तरीके से एक समान हैं और एक असंगत है। जो असंगत है उसका चयन करें।

- Ans
- 1. PORTAL : TRPOLA
  - 2. COUNTS : UTSONC
  - 3. DIVERT : VTRIED
  - 4. CLOSED : SOLECD

Question ID : 630680406277

Option 1 ID : 6306801584332

Option 2 ID : 6306801584333

Option 3 ID : 6306801584334

Option 4 ID : 6306801584335

Status : Answered

Chosen Option : 4

Q.7 एक ही दिशा की ओर अभिमुख होकर एक पंक्ति में बैठे 92 विद्यार्थियों की एक कक्षा में, रकुल बाएं छोर से 16वें स्थान पर है और वैदेही दाएं छोर से 44वें स्थान पर है। रकुल और वैदेही के बीच कितने विद्यार्थी बैठे हैं?

- Ans
- ✓ 1. 32
  - ✗ 2. 33
  - ✗ 3. 30
  - ✗ 4. 31

Question ID : 630680406269  
Option 1 ID : 6306801584302  
Option 2 ID : 6306801584303  
Option 3 ID : 6306801584300  
Option 4 ID : 6306801584301  
Status : Answered  
Chosen Option : 1

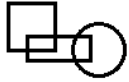
Q.8 निम्नलिखित समीकरण में प्रश्न चिह्न (?) के स्थान पर लगभग कितना मान आना चाहिए?

$$7.008 \times (45.04 \div 8.99) + 23.95 + (62.99 \div 8.98) - 14.96 = ?$$

- Ans
- ✗ 1. 62
  - ✓ 2. 51
  - ✗ 3. 45
  - ✗ 4. 57

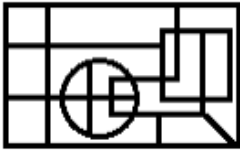
Question ID : 630680406280  
Option 1 ID : 6306801584347  
Option 2 ID : 6306801584345  
Option 3 ID : 6306801584344  
Option 4 ID : 6306801584346  
Status : Answered  
Chosen Option : 2

Q.9 उस विकल्प का चयन करें, जिसमें दी गई आकृति सन्निहित है (घुमाने की अनुमति नहीं है)।

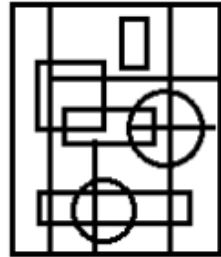


Ans

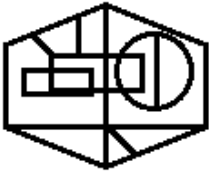
✗ 1.



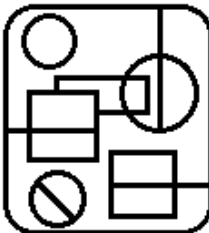
✓ 2.



✗ 3.



✗ 4.



Question ID : 630680406278

Option 1 ID : 6306801584337

Option 2 ID : 6306801584338

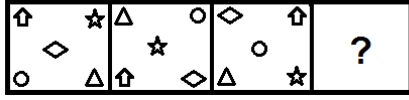
Option 3 ID : 6306801584336

Option 4 ID : 6306801584339

Status : Answered

Chosen Option : 2

Q.10 दिए गए विकल्पों में से उस आकृति का चयन करें, जो निम्नलिखित श्रृंखला में प्रश्न चिह्न (?) को प्रतिस्थापित कर सके।

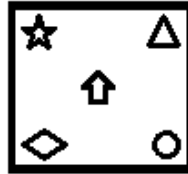


Ans

✗ 1.



✓ 2.



✗ 3.



✗ 4.



Question ID : 630680406279  
Option 1 ID : 6306801584340  
Option 2 ID : 6306801584342  
Option 3 ID : 6306801584341  
Option 4 ID : 6306801584343

Status : Answered

Chosen Option : 2

Q.11 यदि  $G < M < K = P > R > U$  हो, तो निम्नलिखित में से कौन सा निष्कर्ष सही है?

Ans ✗ 1.  $G > U$

✗ 2.  $M < R$

✗ 3.  $K < R$

✓ 4.  $P > G$

Question ID : 630680406272  
Option 1 ID : 6306801584313  
Option 2 ID : 6306801584315  
Option 3 ID : 6306801584312  
Option 4 ID : 6306801584314

Status : Answered

Chosen Option : 4

Q.12 उन अक्षरों के संयोजन का चयन करें, जिन्हें दी गई श्रृंखला के रिक्त स्थानों में क्रमिक रूप से रखने पर श्रृंखला पूर्ण हो जाएगी।

N \_ W \_ D G \_ U \_ L W S \_ G P \_ N L \_ S D G \_ U

- Ans
- ✓ 1. L S P N D U W P
  - ✗ 2. L S U N D U W P
  - ✗ 3. L S P N D U D P
  - ✗ 4. L S P N D S W P

Question ID : 630680406285  
 Option 1 ID : 6306801584365  
 Option 2 ID : 6306801584366  
 Option 3 ID : 6306801584364  
 Option 4 ID : 6306801584367  
 Status : Answered  
 Chosen Option : 1

Q.13 Read the given statements and conclusions carefully. Assuming that the information given in the statements is true, even if it appears to be at variance with commonly known facts, decide which of the given conclusions logically follow(s) from the statements.

**Statements:**

All plots are buildings.  
 Some buildings are flats.  
 All flats are gates.

**Conclusions:**

I. No plot is a gate.  
 II. No gate is a building.  
 III. All buildings are gates.

- Ans
- ✗ 1. Conclusion I follows.
  - ✓ 2. None of the conclusions I, II or III follows.
  - ✗ 3. Conclusion II follows.
  - ✗ 4. Conclusion III follows.

Question ID : 630680406271  
 Option 1 ID : 6306801584308  
 Option 2 ID : 6306801584311  
 Option 3 ID : 6306801584309  
 Option 4 ID : 6306801584310  
 Status : Answered  
 Chosen Option : 2

Q.14 दिए गए विकल्पों में से उस पद का चयन करें, जो निम्नलिखित श्रृंखला में प्रश्न चिह्न (?) को प्रतिस्थापित कर सकता है।

BURC-13, ZSPA-23, XQNY-43, ?, TMJU-163

- Ans
- VOLW-83
  - VOLW-87
  - 3. VPLX-83
  - 4. VPLX-87

Question ID : 630680406273  
 Option 1 ID : 6306801584317  
 Option 2 ID : 6306801584316  
 Option 3 ID : 6306801584318  
 Option 4 ID : 6306801584319  
 Status : Answered  
 Chosen Option : 1

Q.15 निम्नलिखित समीकरण में प्रश्न चिह्न (?) के स्थान पर लगभग कितना मान आना चाहिए?

$$26.99 \div (105.02 \div 34.97) + 7.05 \times 5.02 + (84.02 - 19.99) \div 3.99 = ?$$

- Ans
- 1. 50
  - 2. 70
  - 3. 60
  - 4. 64

Question ID : 630680406281  
 Option 1 ID : 6306801584348  
 Option 2 ID : 6306801584351  
 Option 3 ID : 6306801584349  
 Option 4 ID : 6306801584350  
 Status : Answered  
 Chosen Option : 3

Q.16 उस विकल्प का चयन करें जिसमें संख्याएं उसी प्रकार संबंधित हैं, जिस प्रकार दिए गए समुच्चयों की संख्याएं संबंधित हैं।

(नोट : संख्याओं को उनके घटक अंकों में तोड़े बिना पूर्ण संख्याओं पर ही संक्रियाएं की जानी चाहिए। उदाहरण के लिए 13 को लें- 13 पर संक्रियाएं, जैसे कि 13 में जोड़ना/घटाना/गुणा करना आदि, की जा सकती हैं। 13 को 1 और 3 में तोड़ने और फिर 1 और 3 पर गणितीय संक्रियाएँ करने की अनुमति नहीं है।)

(18, 9, 243)

(16, 7, 207)

Ans ✓ 1. (22, 12, 340)

✗ 2. (20, 14, 268)

✗ 3. (17, 10, 92)

✗ 4. (15, 10, 115)

Question ID : 630680406286

Option 1 ID : 6306801584370

Option 2 ID : 6306801584369

Option 3 ID : 6306801584371

Option 4 ID : 6306801584368

Status : Answered

Chosen Option : 1

Q.17 चार अक्षर-समूह दिए गए हैं, जिनमें से तीन किसी तरीके से एक समान हैं और एक असंगत है। जो असंगत है उसका चयन करें।

Ans ✓ 1. CFHILO

✗ 2. OQSUWY

✗ 3. PRTVXZ

✗ 4. HJLNPR

Question ID : 630680406276

Option 1 ID : 6306801584329

Option 2 ID : 6306801584331

Option 3 ID : 6306801584330

Option 4 ID : 6306801584328

Status : Answered

Chosen Option : 1

Q.18 Seven persons named P, Q, R, S, T, U and V are sitting in a straight line facing the north direction. More than three persons are sitting between R and T. U is sitting to the immediate right of T. R is third to the left of S. Q is second to the left of U. P is third to the left of T. Only V is sitting between R and P. Who is sitting second to the right of V?

Ans ✗ 1. T

✗ 2. U

✗ 3. Q

✓ 4. S

Question ID : 630680406267

Option 1 ID : 6306801584294

Option 2 ID : 6306801584295

Option 3 ID : 6306801584292

Option 4 ID : 6306801584293

Status : Answered

Chosen Option : 4

Q.19 1 से 7 तक की संख्या वाले सात बॉक्स एक के ऊपर एक रखे गए हैं, पर आवश्यक नहीं कि वे इसी क्रम में रखे गए हों। बॉक्स-2 के नीचे पांच से कम बॉक्स रखे गए हैं। बॉक्स-7 को बॉक्स-4 के ठीक नीचे रखा गया है। बॉक्स-3 को बॉक्स-5 के ठीक ऊपर रखा गया है। बॉक्स-6 को बॉक्स-1 के ठीक ऊपर रखा गया है। बॉक्स-6 और बॉक्स-5 के बीच केवल दो बॉक्स रखे गए हैं। नीचे से तीसरे स्थान पर बॉक्स-1 रखा है। कौन-सा बॉक्स शीर्ष से दूसरे स्थान पर है?

- Ans
- 1. बॉक्स-4
  - 2. बॉक्स-7
  - 3. बॉक्स-6
  - 4. बॉक्स-3

Question ID : 630680406268  
 Option 1 ID : 6306801584297  
 Option 2 ID : 6306801584299  
 Option 3 ID : 6306801584298  
 Option 4 ID : 6306801584296  
 Status : Answered  
 Chosen Option : 1

Q.20 A, B, C, D, E, F और G नाम के सात मित्र एक गोल मेज के परितः उसके केंद्र की ओर अभिमुख होकर बैठे हैं। A के बाईं ओर से तीसरे स्थान पर B बैठा है। F के दाईं ओर से दूसरे स्थान पर E बैठा है। E के दाईं ओर से तीसरे स्थान पर C बैठा है। C के ठीक दाईं ओर D बैठा है। G के बाईं ओर से दूसरे स्थान पर कौन बैठा है?

- Ans
- 1. D
  - 2. E
  - 3. B
  - 4. A

Question ID : 630680406283  
 Option 1 ID : 6306801584359  
 Option 2 ID : 6306801584356  
 Option 3 ID : 6306801584358  
 Option 4 ID : 6306801584357  
 Status : Answered  
 Chosen Option : 3

Q.1 यदि 9 अंकों वाली संख्या  $29x4957y4$ , 88 से विभाज्य है, तो निम्नलिखित में से कौन-सा विकल्प सत्य नहीं है?

- Ans
- ✓ 1.  $x = 7$  और  $y = 1$
  - ✗ 2.  $x = 7$  और  $y = 0$
  - ✗ 3.  $x = 4$  और  $y = 8$
  - ✗ 4.  $x = 0$  और  $y = 4$

Question ID : 630680406287  
 Option 1 ID : 6306801584374  
 Option 2 ID : 6306801584373  
 Option 3 ID : 6306801584372  
 Option 4 ID : 6306801584375  
 Status : Answered  
 Chosen Option : 1

Q.2 जब किसी वस्तु को उसके वास्तविक विक्रय मूल्य के  $\frac{33}{40}$  मूल्य पर बेचा जाता है, तो 25% की हानि होती है। यदि इस वस्तु को इसके वास्तविक विक्रय मूल्य से 32% अधिक मूल्य पर बेचा जाए, तो लाभ प्रतिशत \_\_\_\_\_ होगा।

- Ans
- ✓ 1. 20%
  - ✗ 2. 18%
  - ✗ 3. 30%
  - ✗ 4. 25%

Question ID : 630680406292  
 Option 1 ID : 6306801584393  
 Option 2 ID : 6306801584392  
 Option 3 ID : 6306801584395  
 Option 4 ID : 6306801584394  
 Status : Answered  
 Chosen Option : 3

Q.3 यदि ₹54,000 की राशि,  $r$  % वार्षिक चक्रवृद्धि ब्याज पर 2 वर्ष में ₹67,737.60 हो जाती है, तो  $r$  का मान ज्ञात कीजिए।

- Ans
- ✗ 1. 13
  - ✓ 2. 12
  - ✗ 3. 11
  - ✗ 4. 10

Question ID : 630680406299  
 Option 1 ID : 6306801584423  
 Option 2 ID : 6306801584422  
 Option 3 ID : 6306801584421  
 Option 4 ID : 6306801584420  
 Status : Answered  
 Chosen Option : 2

Q.4 एक देश में चावल, गेहूं और मांस की कीमत ₹45/kg, ₹38/kg, ₹120/kg थी। कुछ आर्थिक परिस्थितियों के कारण चावल, गेहूं और मांस की कीमतों में क्रमशः 52%, 48%, और 37% की वृद्धि होती है। यदि सनथ, पहले 1 किलो चावल, 1 किलो गेहूं और 1 किलो मांस खरीदता था, तो कीमतों में हुए बदलाव के बाद उसके द्वारा समान मात्रा में चावल, गेहूं और मांस खरीदने के लिए खर्च होने वाली कुल राशि में कितने प्रतिशत की वृद्धि होगी? (दो दशमलव स्थानों तक पूर्णांकित मान)

- Ans
- ✗ 1. 45.36%
  - ✗ 2. 52.78%
  - ✗ 3. 57.43%
  - ✓ 4. 42.38%

Question ID : 630680406290  
 Option 1 ID : 6306801584384  
 Option 2 ID : 6306801584386  
 Option 3 ID : 6306801584387  
 Option 4 ID : 6306801584385  
 Status : Answered  
 Chosen Option : 4

Q.5 किसी वस्तु के अंकित मूल्य पर 15% और 20% की दो क्रमागत छूट देने के बाद, उसे ₹1,955 में बेचा जाता है। यदि अंकित मूल्य पर कोई छूट नहीं दी जाती है, तो 25% का लाभ होता है। वस्तु का क्रय मूल्य (₹ में) ज्ञात कीजिए।

- Ans
- ✗ 1. 2,100
  - ✗ 2. 2,500
  - ✗ 3. 2,000
  - ✓ 4. 2,300

Question ID : 630680406294  
 Option 1 ID : 6306801584401  
 Option 2 ID : 6306801584403  
 Option 3 ID : 6306801584400  
 Option 4 ID : 6306801584402  
 Status : Answered  
 Chosen Option : 4

Q.6 X, Y, और Z की कुल आय ₹75,000 है। X की आय तथा Y और Z की संयुक्त आय का अनुपात 3 : 7 है, एवं Y की आय तथा X और Z की संयुक्त आय का अनुपात 4 : 11 है। Z की आय (₹ में) कितनी है?

- Ans
- ✗ 1. 25,000
  - ✗ 2. 30,000
  - ✓ 3. 32,500
  - ✗ 4. 22,500

Question ID : 630680406296  
 Option 1 ID : 6306801584409  
 Option 2 ID : 6306801584410  
 Option 3 ID : 6306801584411  
 Option 4 ID : 6306801584408  
 Status : Answered  
 Chosen Option : 2

Q.7 कोई व्यक्ति, बाइक से कुल 270 km की दूरी तय करता है। पहले 4 घंटों के लिए, चाल 50 km/h थी और शेष यात्रा के लिए, यह घटकर 35 km/h हो गई। बाइक की औसत चाल कितनी है?

- Ans
- 1. 39 km/h
  - 2. 42 km/h
  - 3. 38 km/h
  - 4. 45 km/h

Question ID : 630680406289  
 Option 1 ID : 6306801584382  
 Option 2 ID : 6306801584381  
 Option 3 ID : 6306801584383  
 Option 4 ID : 6306801584380  
 Status : Answered  
 Chosen Option : 4

Q.8 राहुल को अपना व्यवसाय शुरू करने के लिए ₹5 लाख के व्यक्तिगत ऋण की आवश्यकता है, और वह ऋण प्रक्रिया के बारे में पूछताछ करने के लिए दो बैंकों में जाता है। उसे पता चलता है कि बैंक A, 8% साधारण ब्याज की वार्षिक दर पर ऋण देता है, और बैंक B, 6% चक्रवृद्धि ब्याज की वार्षिक दर पर ऋण देता है। 4 वर्ष बाद दोनों बैंकों द्वारा लगाए गए ब्याज के बीच का अंतर (निकटतम ₹ में) ज्ञात कीजिए।

- Ans
- 1. ₹27,826
  - 2. ₹28,762
  - 3. ₹25,643
  - 4. ₹23,456

Question ID : 630680406298  
 Option 1 ID : 6306801584419  
 Option 2 ID : 6306801584418  
 Option 3 ID : 6306801584417  
 Option 4 ID : 6306801584416  
 Status : Answered  
 Chosen Option : 4

Q.9 यदि एक घनाभ की लंबाई, चौड़ाई और ऊँचाई क्रमशः 12 cm, 9 cm, और 8 cm है, तो घनाभ के विकर्ण की लंबाई ज्ञात कीजिए।

- Ans
- 1. 14 cm
  - 2. 15 cm
  - 3. 17 cm
  - 4. 19 cm

Question ID : 630680406306  
 Option 1 ID : 6306801584448  
 Option 2 ID : 6306801584449  
 Option 3 ID : 6306801584450  
 Option 4 ID : 6306801584451  
 Status : Answered  
 Chosen Option : 2

Q.10 एक मेज की कीमत, एक कुर्सी की कीमत से 150% अधिक है। यदि मेज की कीमत में 20% की कमी होती है और कुर्सी की कीमत में 45% की वृद्धि होती है, तो कुर्सी की कीमत, मेज की कीमत से कितने प्रतिशत कम होगी?

- Ans
- 1. 25%
  - 2. 26.5%
  - 3. 28%
  - 4. 27.5%

Question ID : 630680406291  
 Option 1 ID : 6306801584388  
 Option 2 ID : 6306801584389  
 Option 3 ID : 6306801584391  
 Option 4 ID : 6306801584390  
 Status : Answered  
 Chosen Option : 4

Q.11 स्थिर जल में, किसी नाव की चाल 15 km/h है और इसे धारा की विपरीत दिशा में 10 km की दूरी तथा धारा की दिशा में 15 km की दूरी तय करने में  $1\frac{3}{4}$  घंटे लगते हैं। नाव को धारा की विपरीत दिशा में 15 km की दूरी तथा धारा की दिशा में 30 km की दूरी तय करने में कितना समय (घंटे में) लगेगा?

- Ans
- 1. 6
  - 2. 2
  - 3. 5
  - 4. 3

Question ID : 630680406301  
 Option 1 ID : 6306801584431  
 Option 2 ID : 6306801584428  
 Option 3 ID : 6306801584430  
 Option 4 ID : 6306801584429  
 Status : Answered  
 Chosen Option : 2

Q.12 किसी दुकानदार के पास समान क्रय मूल्य वाले 180 पेन हैं। वह उनमें से 60% पेन 40% लाभ पर बेचता है और शेष पेन 20% हानि पर बेचता है। पूरे लेन-देन में उसका लाभ प्रतिशत कितना होगा?

- Ans
- 1. 20%
  - 2. 13.8%
  - 3. 18.5%
  - 4. 16%

Question ID : 630680406293  
 Option 1 ID : 6306801584398  
 Option 2 ID : 6306801584399  
 Option 3 ID : 6306801584397  
 Option 4 ID : 6306801584396  
 Status : Answered  
 Chosen Option : 4

Q.13 P और Q,  $\frac{3}{8} : \frac{5}{6}$  अनुपात में निवेश के साथ एक व्यवसाय शुरू करते हैं। 4 महीने बाद, P अपनी पूंजी दोगुनी करता है और Q अपनी पूंजी में 50% की कमी करता है। ₹34 लाख के वार्षिक लाभ में Q का हिस्सा (₹ लाख में) कितना होगा?

- Ans
- 1. 18
  - 2. 19
  - 3. 17
  - 4. 16

Question ID : 630680406295  
 Option 1 ID : 6306801584406  
 Option 2 ID : 6306801584407  
 Option 3 ID : 6306801584405  
 Option 4 ID : 6306801584404  
 Status : Answered  
 Chosen Option : 4

Q.14 संख्या 125 और 45 का माध्यानुपाती (mean proportional) ज्ञात कीजिए।

- Ans
- 1. 78
  - 2. 75
  - 3. 85
  - 4. 77

Question ID : 630680406297  
 Option 1 ID : 6306801584413  
 Option 2 ID : 6306801584412  
 Option 3 ID : 6306801584415  
 Option 4 ID : 6306801584414  
 Status : Answered  
 Chosen Option : 2

Q.15 एक पुलिसकर्मी, एक चोर को 840 m की दूरी पर देखता है। जब पुलिसकर्मी 90 km/h की चाल से पीछा करना शुरू करता है, तो चोर भी उसी समय मोटरसाइकिल से 15 m/sec की चाल से चलना शुरू करता है। पुलिसकर्मी द्वारा पकड़े जाने से पहले चोर कितनी दूर (m में) चला होगा?

- Ans
- 1. 1260
  - 2. 1350
  - 3. 1240
  - 4. 1320

Question ID : 630680406300  
 Option 1 ID : 6306801584425  
 Option 2 ID : 6306801584427  
 Option 3 ID : 6306801584424  
 Option 4 ID : 6306801584426  
 Status : Answered  
 Chosen Option : 2

Q.16 7 m अंतरिक त्रिज्या वाले एक कुएं को 15 m गहरा खोदा जाता है। इससे निकाली गई मिट्टी को एक तटबंध बनाने के लिए इसके परितः 21 m की चौड़ाई तक समान रूप से फैलाया जाता है। तटबंध की ऊँचाई ज्ञात कीजिए।

- Ans
- ✓ 1. 1.0 m
  - ✗ 2. 1.8 m
  - ✗ 3. 1.5 m
  - ✗ 4. 1.2 m

Question ID : 630680406305  
 Option 1 ID : 6306801584444  
 Option 2 ID : 6306801584447  
 Option 3 ID : 6306801584445  
 Option 4 ID : 6306801584446  
 Status : Answered  
 Chosen Option : 1

Q.17 (1,3), (3,5) और (5,2) शीर्षों से निर्मित त्रिभुज का क्षेत्रफल (वर्ग इकाई में) ज्ञात कीजिए।

- Ans
- ✓ 1. 5
  - ✗ 2. 6
  - ✗ 3. 7
  - ✗ 4. 4

Question ID : 630680406303  
 Option 1 ID : 6306801584437  
 Option 2 ID : 6306801584438  
 Option 3 ID : 6306801584439  
 Option 4 ID : 6306801584436  
 Status : Not Answered  
 Chosen Option : -

Q.18 यदि किसी गोले की त्रिज्या में 2 cm की वृद्धि होती है, तो उसके पृष्ठीय क्षेत्रफल में 1584 cm<sup>2</sup> की वृद्धि होती है। वृद्धि से पहले गोले का पृष्ठीय क्षेत्रफल कितना था? (तीन दशमलव स्थानों तक पूर्णांकित मान) ( $\pi = \frac{22}{7}$  लीजिए)

- Ans
- ✗ 1. 11,005.763 cm<sup>2</sup>
  - ✓ 2. 11,694.571 cm<sup>2</sup>
  - ✗ 3. 10,255.856 cm<sup>2</sup>
  - ✗ 4. 10,258.478 cm<sup>2</sup>

Question ID : 630680406304  
 Option 1 ID : 6306801584440  
 Option 2 ID : 6306801584442  
 Option 3 ID : 6306801584443  
 Option 4 ID : 6306801584441  
 Status : Not Answered  
 Chosen Option : -

Q.19 पाइप A और B, किसी टंकी को क्रमशः 12 घंटे और 20 घंटे में भर सकते हैं। पाइप C, एक निकास पाइप है। यदि A, B और C को एक साथ 8 घंटे के लिए खोला जाता है, तो टंकी का 80% भाग भर जाता है। शुरू में, पाइप B को 4 घंटे के लिए खोला जाता है और फिर बंद कर दिया जाता है। पाइप A और C एक साथ, टंकी के शेष भाग को \_\_\_\_\_ (घंटे में) में भरेंगे।

- Ans
- 1. 12
  - 2. 16
  - 3. 15
  - 4. 18

Question ID : 630680406302

Option 1 ID : 6306801584432

Option 2 ID : 6306801584434

Option 3 ID : 6306801584433

Option 4 ID : 6306801584435

Status : Not Attempted and  
Marked For Review

Chosen Option : -

Q.20 किसी कॉलेज में शिक्षण कर्मचारियों (teaching staff) और शिक्षकेतर कर्मचारियों (non-teaching staff) का औसत वेतन ₹32,000/माह है। शिक्षण कर्मचारियों का औसत वेतन ₹68,000 है और शिक्षकेतर कर्मचारियों का औसत वेतन ₹20,000 है। यदि कॉलेज में शिक्षण कर्मचारियों की संख्या 50 है, तो शिक्षकेतर कर्मचारियों की संख्या \_\_\_\_\_ होगी।

- Ans
- 1. 150
  - 2. 175
  - 3. 125
  - 4. 140

Question ID : 630680406288

Option 1 ID : 6306801584376

Option 2 ID : 6306801584379

Option 3 ID : 6306801584377

Option 4 ID : 6306801584378

Status : Not Attempted and  
Marked For Review

Chosen Option : -

Section : English Language

Q.1 Select the most appropriate synonym of the given word.

Clandestine

- Ans
- 1. Covert
  - 2. Aboveboard
  - 3. Forthright
  - 4. Exposed

Question ID : 630680406314

Option 1 ID : 6306801584480

Option 2 ID : 6306801584482

Option 3 ID : 6306801584483

Option 4 ID : 6306801584481

Status : Not Answered

Chosen Option : -

Q.2 Select the option that can be used as a one-word substitute for the given group of words.

The science or practice of building or flying aircrafts

- Ans
- 1. Astrology
  - 2. Astrophysics
  - 3. Aeronautics
  - 4. Astronomy

Question ID : 630680406310  
 Option 1 ID : 6306801584464  
 Option 2 ID : 6306801584466  
 Option 3 ID : 6306801584467  
 Option 4 ID : 6306801584465  
 Status : Answered  
 Chosen Option : 3

Q.3 Select the most appropriate synonym of the given word.

Capacious

- Ans
- 1. Cramped
  - 2. Capable
  - 3. Substantial
  - 4. Superficial

Question ID : 630680406316  
 Option 1 ID : 6306801584489  
 Option 2 ID : 6306801584491  
 Option 3 ID : 6306801584490  
 Option 4 ID : 6306801584488  
 Status : Answered  
 Chosen Option : 2

Q.4 Select the most appropriate option that can substitute the underlined segment in the following sentence. If no substitution is required, select 'No substitution'.

Inadequate knowledge of any matter prove to be very harmful.

- Ans
- 1. proves to being
  - 2. proves to be
  - 3. No substitution
  - 4. is proving

Question ID : 630680406312  
 Option 1 ID : 6306801584473  
 Option 2 ID : 6306801584474  
 Option 3 ID : 6306801584475  
 Option 4 ID : 6306801584472  
 Status : Answered  
 Chosen Option : 2

Q.5 Sentences of a paragraph are given below in jumbled order. Select the option that arranges the sentences in the correct order to form a meaningful and coherent paragraph.

- A. This is because they have begun to aggravate diseases instead of curing them.
- B. The outcome of intensive research and in-depth studies has startled everyone.
- C. Medicines have become an element of surprise and a cause of concern.
- D. The doctors are perplexed and the patients are annoyed.

- Ans
- 1. ADBC
  - 2. BCDA
  - 3. DACB
  - 4. CABD

Question ID : 630680406309  
 Option 1 ID : 6306801584461  
 Option 2 ID : 6306801584463  
 Option 3 ID : 6306801584462  
 Option 4 ID : 6306801584460  
 Status : Answered  
 Chosen Option : 2

Q.6 Select the most appropriate ANTONYM of the given word.

Pensive

- Ans
- 1. Wistful
  - 2. Thoughtful
  - 3. Sober
  - 4. Uncaring

Question ID : 630680406313  
 Option 1 ID : 6306801584476  
 Option 2 ID : 6306801584478  
 Option 3 ID : 6306801584477  
 Option 4 ID : 6306801584479  
 Status : Answered  
 Chosen Option : 1

Q.7 Select the most appropriate ANTONYM of the given word.

Volatile

- Ans
- 1. Fickle
  - 2. Lively
  - 3. Giddy
  - 4. Stable

Question ID : 630680406315  
 Option 1 ID : 6306801584484  
 Option 2 ID : 6306801584487  
 Option 3 ID : 6306801584486  
 Option 4 ID : 6306801584485  
 Status : Answered  
 Chosen Option : 4

Q.8 Select the option that can be used as a one-word substitute for the given group of words.

An annual calendar that contains important dates and time

- Ans
- 1. Omnibus
  - 2. Embargo
  - 3. Utopia
  - 4. Almanac

Question ID : 630680406311  
 Option 1 ID : 6306801584468  
 Option 2 ID : 6306801584471  
 Option 3 ID : 6306801584469  
 Option 4 ID : 6306801584470  
 Status : Answered  
 Chosen Option : 4

Q.9 In the following paragraph, some sentences (labelled 1 and 2) are missing. Select the most appropriate sentences from the given alternatives (A, B and C) to complete the paragraph.

The modern world requires us to repose trust in many anonymous institutions. We strap ourselves in a flying tin can with two hundred other people, not because we know the pilot but because we believe that airline travel is safe.

(1)\_\_\_\_\_

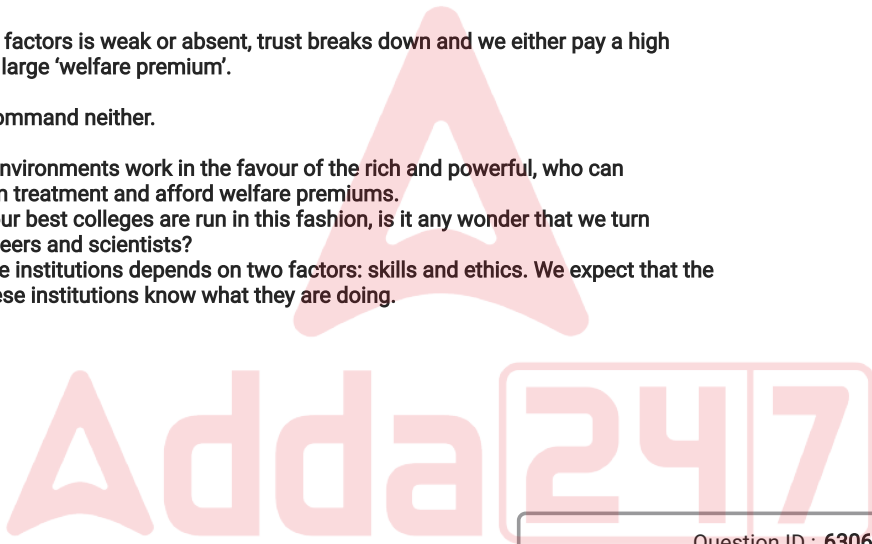
When one of these factors is weak or absent, trust breaks down and we either pay a high price in safety or a large 'welfare premium'.

(2)\_\_\_\_\_

Poor people can command neither.

- A. Trust-deficient environments work in the favour of the rich and powerful, who can command premium treatment and afford welfare premiums.
- B. When some of our best colleges are run in this fashion, is it any wonder that we turn out unskilled engineers and scientists?
- C. Our trust in these institutions depends on two factors: skills and ethics. We expect that the people who run these institutions know what they are doing.

- Ans
- 1. 1-B, 2-C
  - 2. 1-C, 2-A
  - 3. 1-A, 2-B
  - 4. 1-C, 2-B



Question ID : 630680406307  
 Option 1 ID : 6306801584452  
 Option 2 ID : 6306801584453  
 Option 3 ID : 6306801584454  
 Option 4 ID : 6306801584455  
 Status : Not Answered  
 Chosen Option : -

Q.10 In the following paragraph, some sentences (labelled 1 and 2) are missing. Select the most appropriate sentences from the given alternatives (A, B and C) to complete the paragraph.

Every moment of life is precious. Time is the essence of life. It is the wealth given to us by Nature. Everyday all of us get 24 hours; nothing less, nothing more.

(1) \_\_\_\_\_

Work wins appreciation only when it gets completed in a requisite time frame. Beyond the time allotted, work loses all its utility, however good may have been its quality.

(2) \_\_\_\_\_

A person who has learnt to wisely use his time has actually learnt the true mantra of life.

A. Just as falling of rains after the crops have dried up have no use, likewise, when the time is past the deadline, the work loses its importance and value.

B. Now, it is up to us how we use it. People who know how to make the best use of every moment easily open the doors of success in their lives.

C. When other people are busy in wasting time in laziness, great men are busy in making plans for the future.

- Ans
- 1. 1-A, 2-C
  - 2. 1-C, 2-B
  - 3. 1-B, 2-A
  - 4. 1-B, 2-C

Question ID : 630680406308  
 Option 1 ID : 6306801584459  
 Option 2 ID : 6306801584456  
 Option 3 ID : 6306801584458  
 Option 4 ID : 6306801584457  
 Status : Not Answered  
 Chosen Option : -

Section : General Awareness

Q.1 भारत की 2011 की जनगणना के अनुसार निम्नलिखित में से किस अनुसूचित भाषा को बोलने वालों का प्रतिशत सबसे अधिक है?

- Ans
- 1. तमिल
  - 2. हिंदी
  - 3. बंगाली
  - 4. बोडो

Question ID : 630680406333  
 Option 1 ID : 6306801584557  
 Option 2 ID : 6306801584558  
 Option 3 ID : 6306801584556  
 Option 4 ID : 6306801584559  
 Status : Answered  
 Chosen Option : 2

Q.2 'आत्मचरित्र' किस लेखक की आत्मकथा है?

- Ans
- 1. मनोज दास
  - 2. जगदीश मोहंती
  - 3. पुष्पश्री पटनायक
  - 4. फकीर मोहन सेनापति

Question ID : 630680406336  
 Option 1 ID : 6306801584570  
 Option 2 ID : 6306801584568  
 Option 3 ID : 6306801584569  
 Option 4 ID : 6306801584571  
 Status : Answered  
 Chosen Option : 2

Q.3 अलाउद्दीन खिलजी के पुराने सरदारों और जमींदारों ने राजस्व संग्रहकर्ता और कर निर्धारकों के रूप में सल्तनत की सेवा की। लगाए गए तीन प्रकार के कर (1) खेती पर जिसे 'खिराज' कहा जाता था और जो किसानों की उपज का लगभग 50% था, (2) मवेशियों पर और (3) \_\_\_\_\_ पर थे।

- Ans
- 1. घर
  - 2. भोजन
  - 3. आय
  - 4. कपड़

Question ID : 630680406326  
 Option 1 ID : 6306801584530  
 Option 2 ID : 6306801584529  
 Option 3 ID : 6306801584531  
 Option 4 ID : 6306801584528  
 Status : Not Answered  
 Chosen Option : -

Q.4 In the short run, which of the following factors cannot be varied and remains fixed?

- Ans
- 1. Short investment
  - 2. Capital
  - 3. Owner
  - 4. Land

Question ID : 630680406323  
 Option 1 ID : 6306801584519  
 Option 2 ID : 6306801584516  
 Option 3 ID : 6306801584518  
 Option 4 ID : 6306801584517  
 Status : Answered  
 Chosen Option : 2

Q.5 अत्यंत भीषण चक्रवाती तूफान 'बिपरजॉय' से सबसे पहले भारत का कौन-सा राज्य प्रभावित हुआ था?

- Ans
- 1. तमिलनाडु
  - 2. हरियाणा
  - 3. गुजरात
  - 4. राजस्थान

Question ID : 630680406317  
 Option 1 ID : 6306801584495  
 Option 2 ID : 6306801584493  
 Option 3 ID : 6306801584494  
 Option 4 ID : 6306801584492  
 Status : Answered  
 Chosen Option : 3

Q.6 महानदी, गोदावरी, कृष्णा और कावेरी जैसी बड़ी नदियों ने निम्नलिखित में से किस तट पर व्यापक डेल्टा का निर्माण किया है?

- Ans
- 1. पूर्वी तट (Eastern Coast)
  - 2. कोरोमंडल तट (Coromandel Coast)
  - 3. पश्चिमी तट (Western Coast)
  - 4. उत्तरी सरकार (Northern Circar)

Question ID : 630680406332  
 Option 1 ID : 6306801584555  
 Option 2 ID : 6306801584553  
 Option 3 ID : 6306801584554  
 Option 4 ID : 6306801584552  
 Status : Answered  
 Chosen Option : 2

Q.7 महात्मा गांधी ने भीड़ द्वारा चोरी चौरा में एक पुलिस स्टेशन में आग लगा देने के बाद, \_\_\_\_\_ में आकस्मिक रूप से असहयोग आंदोलन बंद कर दिया।

- Ans
- 1. दिसंबर 1935
  - 2. जून 1937
  - 3. फरवरी 1922
  - 4. अगस्त 1913

Question ID : 630680406325  
 Option 1 ID : 6306801584524  
 Option 2 ID : 6306801584527  
 Option 3 ID : 6306801584525  
 Option 4 ID : 6306801584526  
 Status : Answered  
 Chosen Option : 3

Q.8 According to accounting rules, an account must be balanced on both sides of credit and debit. So, if assets are greater than the liabilities then it will be recorded as \_\_\_\_\_.

- Ans
- 1. loan
  - 2. turnover
  - 3. loss
  - 4. net worth

Question ID : 630680406322  
Option 1 ID : 6306801584514  
Option 2 ID : 6306801584515  
Option 3 ID : 6306801584512  
Option 4 ID : 6306801584513  
Status : Answered  
Chosen Option : 2

Q.9 बॉलीवुड फिल्म 'भाग मिल्खा भाग' एथलीट मिल्खा सिंह की किस आत्मकथा पर आधारित है?

- Ans
- 1. योगी (Yogi)
  - 2. जाखन छोटी चिलम (Jakhan Choto Chilam)
  - 3. विंग्स ऑफ फायर (Wings of Fire)
  - 4. द रेस ऑफ माय लाइफ (The Race of My Life)

Question ID : 630680406328  
Option 1 ID : 6306801584537  
Option 2 ID : 6306801584539  
Option 3 ID : 6306801584536  
Option 4 ID : 6306801584538  
Status : Answered  
Chosen Option : 4

Q.10 In regard to coastal plains, the Western Ghats is divided into three sections as northern, central and southern. Which of following is referred to as the southern part?

- Ans
- 1. Narrow Plain
  - 2. Malabar Coast
  - 3. Kannad Plain
  - 4. Konkan

Question ID : 630680406331  
Option 1 ID : 6306801584551  
Option 2 ID : 6306801584550  
Option 3 ID : 6306801584549  
Option 4 ID : 6306801584548  
Status : Answered  
Chosen Option : 2

Q.11 सतत विकास और शिक्षा सुधार के क्षेत्र में अप्रैल 2023 में आयोजित 'संतोकबा मानवतावादी पुरस्कार' किसने जीता?

- Ans
- 1. डॉ. रघु राम पिल्लारीसेटी
  - 2. रतन टाटा
  - 3. उत्सा पटनायक
  - 4. सोनम वांगचुक

Question ID : 630680406318  
Option 1 ID : 6306801584498  
Option 2 ID : 6306801584497  
Option 3 ID : 6306801584499  
Option 4 ID : 6306801584496  
Status : Answered  
Chosen Option : 2

Q.12 भारत में निम्नलिखित में से कौन-सी एक शास्त्रीय भाषा नहीं है?

- Ans
- 1. कोंकणी
  - 2. तेलुगू
  - 3. तमिल
  - 4. मलयालम

Question ID : 630680406329  
Option 1 ID : 6306801584543  
Option 2 ID : 6306801584542  
Option 3 ID : 6306801584541  
Option 4 ID : 6306801584540  
Status : Answered  
Chosen Option : 2

Q.13 भारतीय ज्ञानपीठ पुरस्कार प्राप्त करने वाली पहली भारतीय महिला उपन्यासकार कौन थी?

- Ans
- 1. कीर्तना रेड्डी (Keerthana Reddy)
  - 2. सामंता देवी (Samanta Devi)
  - 3. रानी बाई फुलेकर (Rani Bai Phulekar)
  - 4. आशापूर्णा देवी (Ashapoorna Devi)

Question ID : 630680406327  
Option 1 ID : 6306801584535  
Option 2 ID : 6306801584533  
Option 3 ID : 6306801584534  
Option 4 ID : 6306801584532  
Status : Answered  
Chosen Option : 4

Q.14 \_\_\_\_\_ वह अवधि है जिसके दौरान व्यक्ति बच्चा नहीं रह जाता है लेकिन वयस्क भी नहीं होता है। विश्व स्वास्थ्य संगठन (WHO) द्वारा ऐसे व्यक्तियों को 10 से 19 वर्ष की आयु वर्ग में रखा गया है।

- Ans
- 1. यौवनारंभ
  - 2. बचपन
  - 3. वयस्कता
  - 4. किशोरावस्था

Question ID : 630680406334  
 Option 1 ID : 6306801584561  
 Option 2 ID : 6306801584562  
 Option 3 ID : 6306801584563  
 Option 4 ID : 6306801584560  
 Status : Answered  
 Chosen Option : 4

Q.15 जून 2023 में, भारतीय प्रौद्योगिकी संस्थान (IIT) मद्रास के शोधकर्ताओं ने एक IoT (इंटरनेट ऑफ थिंग्स) आधारित मोबाइल वायु प्रदूषण मॉनिटरिंग फ्रेमवर्क विकसित किया। स्थानिक-अस्थायी वायु गुणवत्ता डेटा एकत्र करने के लिए इस फ्रेमवर्क को बसों, कारों और दोपहिया वाहनों पर लगाया जा सकता है। इस प्रोजेक्ट का नाम क्या है?

- Ans
- 1. प्रोजेक्ट शास्त्र (Project Shastra)
  - 2. प्रोजेक्ट फ्री-मोबाइल (Project Free-Mobile)
  - 3. प्रोजेक्ट मोबी-एयर (Project Mobi-Air)
  - 4. प्रोजेक्ट कात्रू (Project Kaatru)

Question ID : 630680406320  
 Option 1 ID : 6306801584506  
 Option 2 ID : 6306801584505  
 Option 3 ID : 6306801584504  
 Option 4 ID : 6306801584507  
 Status : Not Answered  
 Chosen Option : -

Q.16 18वीं सदी में फ्रांसीसी समाज तीन सत्ता-वर्गों में विभाजित था और केवल \_\_\_\_\_ के सदस्य ही करों का भुगतान करते थे।

- Ans
- 1. चतुर्थ-वर्ग (Fourth estate)
  - 2. तृतीय-वर्ग (Third estate)
  - 3. प्रथम-वर्ग (First estate)
  - 4. द्वितीय-वर्ग (Second estate)

Question ID : 630680406324  
 Option 1 ID : 6306801584523  
 Option 2 ID : 6306801584522  
 Option 3 ID : 6306801584520  
 Option 4 ID : 6306801584521  
 Status : Answered  
 Chosen Option : 4

Q.17 भारत के मुख्य न्यायाधीश डी.वाई. चंद्रचूड़ की अध्यक्षता में सर्वोच्च न्यायालय की पांच-न्यायाधीशों की पीठ ने अप्रैल 2023 में \_\_\_\_\_ की कानूनी मान्यता की माँग करने वाली याचिकाओं के एक बैच पर सुनवाई शुरू की।

- Ans  1. समलैंगिक विवाह  
 2. विषम लैंगिक विवाह  
 3. अंतरजातीय विवाह  
 4. बाल विवाह

Question ID : 630680406321  
 Option 1 ID : 6306801584510  
 Option 2 ID : 6306801584509  
 Option 3 ID : 6306801584508  
 Option 4 ID : 6306801584511  
 Status : Answered  
 Chosen Option : 1

Q.18 निम्नलिखित में से किसे चोल वंश का सबसे शक्तिशाली शासक माना जाता है? वह 985 ईस्वी में राजा बना?

- Ans  1. राजाराज प्रथम  
 2. परांतक प्रथम  
 3. गंडरादित्य  
 4. परांतक द्वितीय

Question ID : 630680406335  
 Option 1 ID : 6306801584565  
 Option 2 ID : 6306801584567  
 Option 3 ID : 6306801584566  
 Option 4 ID : 6306801584564  
 Status : Answered  
 Chosen Option : 1

Q.19 असम में 'बिहू' त्योहार तीन रूपों में मनाया जाता है। अच्छी फसल के लिए अक्टूबर में बिहू उत्सव का कौन-सा रूप मनाया जाता है?

- Ans  1. बोहाग बिहू  
 2. कटि बिहू  
 3. चैत्र बिहू  
 4. माघ बिहू

Question ID : 630680406330  
 Option 1 ID : 6306801584546  
 Option 2 ID : 6306801584544  
 Option 3 ID : 6306801584547  
 Option 4 ID : 6306801584545  
 Status : Answered  
 Chosen Option : 2

Q.20 एचएफ (HF) रेडियो प्रसार मॉडल, जो अंतरिक्ष मौसम के प्रभाव का अनुमान लगा सकता है और उच्च आवृत्ति (HF) रेडियो संचार की योजना और संचालन की सुविधा प्रदान कर सकता है, यह किस संस्थान के वैज्ञानिकों द्वारा विकसित किया गया है?

- Ans
- 1. भारतीय सूचना प्रौद्योगिकी संस्थान (Indian Institute of Information Technology)
  - 2. भारतीय प्रौद्योगिकी संस्थान (Indian Institute of Technology)
  - 3. भारतीय भू-चुंबकत्व संस्थान (Indian Institute of Geomagnetism)
  - 4. भारतीय विज्ञान संस्थान (Indian Institute of Science)

Question ID : 630680406319  
 Option 1 ID : 6306801584502  
 Option 2 ID : 6306801584503  
 Option 3 ID : 6306801584501  
 Option 4 ID : 6306801584500  
 Status : Not Answered  
 Chosen Option : -

Section : Computer Literacy

Q.1 HTTP cookies are typically created by a \_\_\_\_\_ while the user is browsing a website and gets stored in the user's computer.

- Ans
- 1. web browser
  - 2. browser plugin
  - 3. web server
  - 4. network switch

Question ID : 630680406361  
 Option 1 ID : 6306801584670  
 Option 2 ID : 6306801584668  
 Option 3 ID : 6306801584671  
 Option 4 ID : 6306801584669  
 Status : Answered  
 Chosen Option : 1

Q.2 इंटरनेट कनेक्टिविटी स्पीड, विशिष्ट रूप से \_\_\_\_\_ में व्यक्त की जाती है।

- Ans
- 1. FLOPS
  - 2. Mbps
  - 3. MB
  - 4. GHz

Question ID : 630680406348  
 Option 1 ID : 6306801584616  
 Option 2 ID : 6306801584618  
 Option 3 ID : 6306801584619  
 Option 4 ID : 6306801584617  
 Status : Answered  
 Chosen Option : 2

Q.3 \_\_\_\_\_, एक सॉफ्टवेयर टूल है, जिसका उपयोग सर्च इंजन द्वारा वर्ल्ड वाइड वेब से कंटेंट को डाउनलोड और इंडेक्स करने के लिए किया जाता है।

- Ans
- 1. सर्वर फार्म (Server Farm)
  - 2. वेब क्रॉलर (Web Crawler)
  - 3. प्रॉक्सी सर्वर (Proxy Server)
  - 4. डेटा सेंटर (Data Centre)

Question ID : 630680406352  
 Option 1 ID : 6306801584634  
 Option 2 ID : 6306801584635  
 Option 3 ID : 6306801584633  
 Option 4 ID : 6306801584632  
 Status : Answered  
 Chosen Option : 3

Q.4 1945 में निर्मित ENIAC कंप्यूटर \_\_\_\_\_ पर आधारित था।

- Ans
- 1. वैक्यूम ट्यूब
  - 2. VLSI
  - 3. ट्रांजिस्टर
  - 4. इंटीग्रेटेड सर्किट

Question ID : 630680406338  
 Option 1 ID : 6306801584578  
 Option 2 ID : 6306801584579  
 Option 3 ID : 6306801584577  
 Option 4 ID : 6306801584576  
 Status : Answered  
 Chosen Option : 3

Q.5 \_\_\_\_\_ और सपोर्टिंग लाइब्रेरी (supporting library) का एक सेट, GCC है।

- Ans
- 1. माइक्रोप्रोसेसर (microprocessors)
  - 2. ब्राउजर (browsers)
  - 3. एडिटर (editors)
  - 4. कम्पाइलर (compilers)

Question ID : 630680406339  
 Option 1 ID : 6306801584583  
 Option 2 ID : 6306801584580  
 Option 3 ID : 6306801584582  
 Option 4 ID : 6306801584581  
 Status : Not Answered  
 Chosen Option : -

Q.6 \_\_\_\_\_ वह प्रेजेंटेशन प्रोग्राम है, जो गूगल डॉक्स एडिटर्स सूट (Google Docs Editors Suite) का भाग है।

- Ans  1. गूगल स्लाइड्स (Google Slides)  
 2. गूगल शोज (Google Shows)  
 3. गूगल साइट्स (Google Sites)  
 4. गूगल शीट्स (Google Sheets)

Question ID : 630680406358  
Option 1 ID : 6306801584659  
Option 2 ID : 6306801584657  
Option 3 ID : 6306801584658  
Option 4 ID : 6306801584656  
Status : Answered  
Chosen Option : 4

Q.7 एमएस-पावरपॉइंट 2019 (MS-PowerPoint 2019) स्लाइड में 'जूम आउट (Zoom out)' करने के लिए \_\_\_\_\_ कीबोर्ड शॉर्टकट का उपयोग किया जाता है।

- Ans  1. Ctrl + प्लस साईन  
 2. Ctrl + माइनस साईन  
 3. Ctrl + 0  
 4. Ctrl + O

Question ID : 630680406346  
Option 1 ID : 6306801584610  
Option 2 ID : 6306801584608  
Option 3 ID : 6306801584611  
Option 4 ID : 6306801584609  
Status : Answered  
Chosen Option : 2

Q.8 ट्विटर में, एक ट्वीट की अधिकतम लंबाई \_\_\_\_\_ अक्षर (character) होती है।

- Ans  1. 280  
 2. 80  
 3. 165  
 4. 145

Question ID : 630680406357  
Option 1 ID : 6306801584655  
Option 2 ID : 6306801584652  
Option 3 ID : 6306801584654  
Option 4 ID : 6306801584653  
Status : Answered  
Chosen Option : 1

Q.9 ईमेल एड्रेस abcde@xyz.com में, xyz.com को \_\_\_\_\_ कहा जाता है।

- Ans
- 1. क्लाइंट-आईडी (client-id)
  - 2. डोमेन नेम (domain name)
  - 3. यूजर-आईडी (user-id)
  - 4. ट्रांसपोर्ट एजेंट (transport agent)

Question ID : 630680406353  
Option 1 ID : 6306801584636  
Option 2 ID : 6306801584637  
Option 3 ID : 6306801584639  
Option 4 ID : 6306801584638  
Status : Answered  
Chosen Option : 2

Q.10 माइक्रोसॉफ्ट वर्ड (Microsoft Word), पहली बार \_\_\_\_\_ में रिलीज हुआ था।

- Ans
- 1. 1979
  - 2. 1987
  - 3. 1983
  - 4. 1975

Question ID : 630680406341  
Option 1 ID : 6306801584589  
Option 2 ID : 6306801584591  
Option 3 ID : 6306801584590  
Option 4 ID : 6306801584588  
Status : Answered  
Chosen Option : 4

Q.11 एमएस वर्ड 2021 (MS Word 2021) में, बाईं ओर एक शब्द को डिलीट करने के लिए उपयोग किया जाने वाला कीबोर्ड शॉर्टकट \_\_\_\_\_ है।

- Ans
- 1. Ctrl + Backspace
  - 2. Ctrl + Enter
  - 3. Ctrl + X
  - 4. Ctrl + Delete

Question ID : 630680406343  
Option 1 ID : 6306801584596  
Option 2 ID : 6306801584598  
Option 3 ID : 6306801584599  
Option 4 ID : 6306801584597  
Status : Answered  
Chosen Option : 1

Q.12 Jan Koum is a co-founder of \_\_\_\_\_.

- Ans
- 1. Twitter
  - 2. Facebook
  - 3. WhatsApp
  - 4. Google Docs

Question ID : 630680406356  
Option 1 ID : 6306801584650  
Option 2 ID : 6306801584648  
Option 3 ID : 6306801584651  
Option 4 ID : 6306801584649  
Status : Answered  
Chosen Option : 1

Q.13 The file extension \_\_\_\_\_ denotes the XML Word template format.

- Ans
- 1. .doc
  - 2. .docm
  - 3. .dotx
  - 4. .docx

Question ID : 630680406340  
Option 1 ID : 6306801584584  
Option 2 ID : 6306801584585  
Option 3 ID : 6306801584587  
Option 4 ID : 6306801584586  
Status : Answered  
Chosen Option : 3

Q.14 निम्नलिखित में से कौन-सा, ओपन सोर्स आरडीबीएमएस (RDBMS) सॉफ्टवेयर है?

- Ans
- 1. मायएसक्यूएल (MySQL)
  - 2. ओरेकल (Oracle)
  - 3. मॉगोडीबी (MongoDB)
  - 4. एसक्यूएल सर्वर (SQL Server)

Question ID : 630680406360  
Option 1 ID : 6306801584665  
Option 2 ID : 6306801584666  
Option 3 ID : 6306801584664  
Option 4 ID : 6306801584667  
Status : Not Answered  
Chosen Option : -

Q.15 मदरबोर्ड पर स्थित इंटेल चिपसेट (Intel chipset) में I/O कंट्रोलर हब को \_\_\_\_\_ कहा जाता है।

- Ans
- 1. वेस्टब्रिज (Westbridge)
  - 2. नार्थब्रिज (Northbridge)
  - 3. साउथब्रिज (Southbridge)
  - 4. ईस्टब्रिज (Eastbridge)

Question ID : 630680406359  
Option 1 ID : 6306801584663  
Option 2 ID : 6306801584661  
Option 3 ID : 6306801584662  
Option 4 ID : 6306801584660  
Status : Not Answered  
Chosen Option : -

Q.16 एक TB स्टोरेज क्षमता, \_\_\_\_\_ MB के बराबर होती है।

- Ans
- 1.  $1024^1$
  - 2.  $1024^2$
  - 3.  $1024^3$
  - 4.  $1024^4$

Question ID : 630680406337  
Option 1 ID : 6306801584572  
Option 2 ID : 6306801584573  
Option 3 ID : 6306801584574  
Option 4 ID : 6306801584575  
Status : Answered  
Chosen Option : 2

Q.17 ई-मेल हेडर (e-mail header) में, bcc, \_\_\_\_\_ carbon copy को संदर्भित करता है।

- Ans
- 1. backup
  - 2. blind
  - 3. black
  - 4. blocked

Question ID : 630680406354  
Option 1 ID : 6306801584640  
Option 2 ID : 6306801584642  
Option 3 ID : 6306801584641  
Option 4 ID : 6306801584643  
Status : Answered  
Chosen Option : 2

Q.18 \_\_\_\_\_, एक ई-मेल क्लाइंट (e-mail client) था, जो माइक्रोसॉफ्ट विंडोज के साथ उपलब्ध था।

- Ans  1. माइक्रोसॉफ्ट आउटलुक (Microsoft Outlook)
2. इंटरनेट एक्सप्लोरर (Internet Explorer)
3. मोजिला नेविगेटर (Mozilla Navigator)
4. विंडोज विस्टा (Windows Vista)

Question ID : 630680406355  
 Option 1 ID : 6306801584646  
 Option 2 ID : 6306801584644  
 Option 3 ID : 6306801584645  
 Option 4 ID : 6306801584647  
 Status : Answered  
 Chosen Option : 2

Q.19 एमएस पावरपॉइंट (MS PowerPoint) का नवीनतम विंडोज संस्करण \_\_\_\_\_ है।

- Ans  1. पावरपॉइंट 2021 (PowerPoint 2021)
2. पावरपॉइंट 2019 (PowerPoint 2019)
3. पावरपॉइंट 2020 (PowerPoint 2020)
4. पावरपॉइंट 2022 (PowerPoint 2022)

Question ID : 630680406344  
 Option 1 ID : 6306801584602  
 Option 2 ID : 6306801584600  
 Option 3 ID : 6306801584601  
 Option 4 ID : 6306801584603  
 Status : Answered  
 Chosen Option : 1

Q.20 एमएस-पावरपॉइंट 2019 (MS-PowerPoint 2019) स्लाइड में हाइपरलिंक इंसर्ट करने के लिए \_\_\_\_\_ कीबोर्ड शॉर्टकट का उपयोग किया जाता है।

- Ans  1. Ctrl + P
2. Ctrl + K
3. Ctrl + H
4. Ctrl + L

Question ID : 630680406345  
 Option 1 ID : 6306801584607  
 Option 2 ID : 6306801584605  
 Option 3 ID : 6306801584604  
 Option 4 ID : 6306801584606  
 Status : Answered  
 Chosen Option : 2

Q.21 पहला ग्राफिकल वेब ब्राउजर \_\_\_\_\_ ने बनाया था।

- Ans
- 1. जान पोस्टेल (Jan Postel)
  - 2. स्टीव जॉब्स (Steve Jobs)
  - 3. टिम बर्नर्स ली (Tim Berners-Lee)
  - 4. विंटन सेर्फ (Vinton Cerf)

Question ID : 630680406351  
Option 1 ID : 6306801584628  
Option 2 ID : 6306801584629  
Option 3 ID : 6306801584630  
Option 4 ID : 6306801584631  
Status : Answered  
Chosen Option : 3

Q.22 TCP का पूर्ण रूप \_\_\_\_\_ Control Protocol है।

- Ans
- 1. Transaction
  - 2. Transmission
  - 3. Traffic
  - 4. Transfer

Question ID : 630680406349  
Option 1 ID : 6306801584621  
Option 2 ID : 6306801584623  
Option 3 ID : 6306801584620  
Option 4 ID : 6306801584622  
Status : Answered  
Chosen Option : 4

Q.23 \_\_\_\_\_, सुरक्षित संचार (secure communication) सुनिश्चित करने के लिए उपयोग किया जाने वाला प्रोटोकॉल है।

- Ans
- 1. IP
  - 2. WWW
  - 3. HTTPS
  - 4. TCP

Question ID : 630680406350  
Option 1 ID : 6306801584625  
Option 2 ID : 6306801584627  
Option 3 ID : 6306801584624  
Option 4 ID : 6306801584626  
Status : Answered  
Chosen Option : 3

Q.24 एमएस-वर्ड 2019 (MS-Word 2019) में, \_\_\_\_\_ इंडेंट में, पैराग्राफ की पहली लाइन मार्जिन से शुरू होती है, और बाद की लाइन इंडेंट होती हैं।

- Ans
- 1. फर्स्ट लाइन (First line)
  - 2. लेफ्ट (Left)
  - 3. हैंगिंग (Hanging)
  - 4. राईट (Right)

Question ID : 630680406342  
 Option 1 ID : 6306801584592  
 Option 2 ID : 6306801584594  
 Option 3 ID : 6306801584593  
 Option 4 ID : 6306801584595  
 Status : Answered  
 Chosen Option : 2

Q.25 \_\_\_\_\_ फाइल एक्सटेंशन, उस पॉवरपॉइंट स्लाइड शो को संदर्भित करता है, जिसे आप पॉवरपॉइंट 97 (PowerPoint 97) से ऑफिस पॉवरपॉइंट 2003 (Office PowerPoint 2003) में ओपन कर सकते हैं।

- Ans
- 1. .pptx
  - 2. .pps
  - 3. .ppss
  - 4. .ppt

Question ID : 630680406347  
 Option 1 ID : 6306801584615  
 Option 2 ID : 6306801584612  
 Option 3 ID : 6306801584613  
 Option 4 ID : 6306801584614  
 Status : Answered  
 Chosen Option : 4

Section : FSSAI-Role, Function, Initiative (A general understanding)

Q.1 In enforcement of food safety in state the organization structure comprises of:

- Ans
- 1. Chief Executive Officer, Adjudicating Officer and Food Analyst
  - 2. State Food Safety Commissioner, Designated Officer and Food Safety Officer
  - 3. Chief Executive Officer, Food Safety Officer and Food Analyst
  - 4. State Food Safety Commissioner, Central Licensing Authority and Food Safety Officer

Question ID : 630680406366  
 Option 1 ID : 6306801584689  
 Option 2 ID : 6306801584691  
 Option 3 ID : 6306801584688  
 Option 4 ID : 6306801584690  
 Status : Answered  
 Chosen Option : 2

Q.2 Which of the following standards cut across various food categories and primarily relate to food safety, covering limits for various contaminants (chemical and biological), toxins in food and also, requirements for packaging, labelling and claims?

- Ans
- 1. Linear standards
  - 2. Parallel standards
  - 3. Vertical standards
  - 4. Horizontal standards

Question ID : 630680406364  
Option 1 ID : 6306801584683  
Option 2 ID : 6306801584682  
Option 3 ID : 6306801584681  
Option 4 ID : 6306801584680  
Status : Answered  
Chosen Option : 4

Q.3 आयतित शिशु दुग्ध आहार प्रतिदर्श के परीक्षण के लिए प्रयोगशाला को कितना शुल्क देय होता है?

- Ans
- 1. ₹3,000
  - 2. शून्य
  - 3. ₹6,000
  - 4. ₹12,000

Question ID : 630680406368  
Option 1 ID : 6306801584697  
Option 2 ID : 6306801584696  
Option 3 ID : 6306801584698  
Option 4 ID : 6306801584699  
Status : Answered  
Chosen Option : 4

Q.4 At least how much portion of women's representation should be there among members of the Food Authority?

- Ans
- 1. 1/5
  - 2. 1/2
  - 3. 1/3
  - 4. 1/4

Question ID : 630680406363  
Option 1 ID : 6306801584679  
Option 2 ID : 6306801584676  
Option 3 ID : 6306801584677  
Option 4 ID : 6306801584678  
Status : Answered  
Chosen Option : 3

Q.5 For recognition of auditing, organisations/agencies should have valid accreditation against:

- Ans  1. ISO/IEC 20020 and ISO/IEC 20021  
 2. ISO/IEC 19020 and ISO/IEC 19021  
 3. ISO/IEC 17020 and ISO/IEC 17021  
 4. ISO/IEC 15020 and ISO/IEC 15021

Question ID : 630680406372  
 Option 1 ID : 6306801584715  
 Option 2 ID : 6306801584713  
 Option 3 ID : 6306801584714  
 Option 4 ID : 6306801584712  
 Status : Answered  
 Chosen Option : 3

Q.6 भोग (BHOG), \_\_\_\_\_ के लिए बनाया गया है।

- Ans  1. पूजा स्थलों (places of worship)  
 2. कार्यस्थलों (places of work)  
 3. विद्यालय स्थलों (places of school)  
 4. परिसर स्थलों (places of campus)

Question ID : 630680406375  
 Option 1 ID : 6306801584725  
 Option 2 ID : 6306801584724  
 Option 3 ID : 6306801584726  
 Option 4 ID : 6306801584727  
 Status : Answered  
 Chosen Option : 1

Q.7 क्लीन स्ट्रीट फूड हब प्रमाणन की वैधता कितनी होती है?

- Ans  1. 3 वर्ष  
 2. 2 वर्ष  
 3. 1 वर्ष  
 4. 4 वर्ष

Question ID : 630680406384  
 Option 1 ID : 6306801584762  
 Option 2 ID : 6306801584761  
 Option 3 ID : 6306801584760  
 Option 4 ID : 6306801584763  
 Status : Answered  
 Chosen Option : 2

Q.8 To which laboratories are samples sent for re-testing by the FSSAI?

- Ans  1. National reference laboratories  
 2. Referral laboratories  
 3. International laboratories  
 4. Primary food laboratories

Question ID : 630680406369  
 Option 1 ID : 6306801584702  
 Option 2 ID : 6306801584701  
 Option 3 ID : 6306801584703  
 Option 4 ID : 6306801584700  
 Status : Answered  
 Chosen Option : 2

Q.9 दूध और खाद्य तेल \_\_\_\_\_ से भरपूर होते हैं।

- Ans  1. आयरन और आयोडीन  
 2. विटामिन A और विटामिन D  
 3. आयरन, विटामिन B12 और फोलिक अम्ल  
 4. विटामिन A और विटामिन B

Question ID : 630680406379  
 Option 1 ID : 6306801584743  
 Option 2 ID : 6306801584741  
 Option 3 ID : 6306801584740  
 Option 4 ID : 6306801584742  
 Status : Answered  
 Chosen Option : 2

Q.10 'SNF' का पूर्ण रूप क्या है?

- Ans  1. Safe and Nutritious Food (सेफ एंड न्यूट्रिशियस फूड)  
 2. Safe and Normal Food (सेफ एंड नॉर्मल फूड)  
 3. Safe and Nutrient Food (सेफ एंड न्यूट्रिएंट फूड)  
 4. Safe and Natural Food (सेफ एंड नेचुरल फूड)

Question ID : 630680406380  
 Option 1 ID : 6306801584746  
 Option 2 ID : 6306801584747  
 Option 3 ID : 6306801584745  
 Option 4 ID : 6306801584744  
 Status : Answered  
 Chosen Option : 1

Q.11 The FSSAI has fixed a limit for TPC in vegetable oil, which is:

- Ans
- 1. 15%
  - 2. 30%
  - 3. 20%
  - 4. 25%

Question ID : 630680406381  
 Option 1 ID : 6306801584748  
 Option 2 ID : 6306801584751  
 Option 3 ID : 6306801584749  
 Option 4 ID : 6306801584750  
 Status : Answered  
 Chosen Option : 4

Q.12 BHOG का पूर्ण रूप क्या है?

- Ans
- 1. Blissful Hygienic Offer to God (ब्लिसफुल हाइजीनिक ऑफर टू गॉड)
  - 2. Blissful Healthy Offering to God (ब्लिसफुल हेल्थी ऑफरिंग टू गॉड)
  - 3. Best Hygienic Offering to God (बेस्ट हाइजीनिक ऑफरिंग टू गॉड)
  - 4. Blissful Hygienic Offering to God (ब्लिसफुल हाइजीनिक ऑफरिंग टू गॉड)

Question ID : 630680406376  
 Option 1 ID : 6306801584731  
 Option 2 ID : 6306801584729  
 Option 3 ID : 6306801584728  
 Option 4 ID : 6306801584730  
 Status : Answered  
 Chosen Option : 4

Q.13 The six colours in the logo of 'Eat Right India' also signify the six tastes as per Ayurveda, which are necessary for energetic effects on mind and body, as suggested in the \_\_\_\_\_.

- Ans
- 1. Upanishads
  - 2. Sushruta Samhita
  - 3. Ashtanga Hridaya
  - 4. Charak Samhita

Question ID : 630680406377  
 Option 1 ID : 6306801584735  
 Option 2 ID : 6306801584732  
 Option 3 ID : 6306801584734  
 Option 4 ID : 6306801584733  
 Status : Answered  
 Chosen Option : 4

Q.14 किस वर्ष के बजट में देश की खाद्य सुरक्षा एवं मानकों में सुधार की आवश्यकता का उल्लेख किया गया था?

- Ans  1. 2004  
 2. 2002  
 3. 2006  
 4. 2000

Question ID : 630680406362  
Option 1 ID : 6306801584674  
Option 2 ID : 6306801584673  
Option 3 ID : 6306801584675  
Option 4 ID : 6306801584672  
Status : Answered  
Chosen Option : 2

Q.15 FSSAI ने ईट राइट मूवमेंट (Eat Right Movement) \_\_\_\_\_ को शुरू किया था।

- Ans  1. 10 जुलाई 2019  
 2. 10 जून 2018  
 3. 10 जून 2019  
 4. 10 जुलाई 2018

Question ID : 630680406386  
Option 1 ID : 6306801584771  
Option 2 ID : 6306801584768  
Option 3 ID : 6306801584770  
Option 4 ID : 6306801584769  
Status : Answered  
Chosen Option : 4

Q.16 Under which ISO series are guidelines for the audit management system of the food safety management system of a food business operator given?

- Ans  1. IS/ISO 22000:2011  
 2. IS/ISO 19011:2011  
 3. IS/ISO 9001:2011  
 4. IS/ISO 15000:2011

Question ID : 630680406371  
Option 1 ID : 6306801584709  
Option 2 ID : 6306801584708  
Option 3 ID : 6306801584711  
Option 4 ID : 6306801584710  
Status : Answered  
Chosen Option : 2

Q.17 FSSAI ने RUCO पहल में एक EEE स्ट्रेटजी क्रियान्वित किया है। 'EEE' का पूर्ण रूप क्या है?

- Ans
- 1. Education, Enrolment, Environment (एजुकेशन, एनरोलमेंट, एनवायरनमेंट)
  - 2. Education, Enforcement, Environment (एजुकेशन, एन्फोर्समेंट, एनवायरनमेंट)
  - 3. Education, Experience, Environment (एजुकेशन, एक्सपीरियंस, एनवायरनमेंट)
  - 4. Education, Enforcement, Ecosystem (एजुकेशन, एन्फोर्समेंट, इकोसिस्टम)

Question ID : 630680406382  
 Option 1 ID : 6306801584752  
 Option 2 ID : 6306801584754  
 Option 3 ID : 6306801584755  
 Option 4 ID : 6306801584753  
 Status : Answered  
 Chosen Option : 4

Q.18 The number of vendors/shops/stalls required to become eligible for a Clean Street Food Hub is:

- Ans
- 1. 40 or more
  - 2. 20 or more
  - 3. 10 or more
  - 4. 30 or more

Question ID : 630680406383  
 Option 1 ID : 6306801584759  
 Option 2 ID : 6306801584757  
 Option 3 ID : 6306801584756  
 Option 4 ID : 6306801584758  
 Status : Answered  
 Chosen Option : 1

Q.19 'SWIFT' का पूर्ण रूप क्या होता है?

- Ans
- 1. Single Window Interchange for Facilitating Trade (सिंगल विंडो इंटरचेंज फॉर फैसिलिटिंग ट्रेड)
  - 2. Single Window Interface for Facilitating Trade (सिंगल विंडो इंटरफेस फॉर फैसिलिटिंग ट्रेड)
  - 3. Super Window Interface for Facilitating Trade (सुपर विंडो इंटरफेस फॉर फैसिलिटिंग ट्रेड)
  - 4. Single Window Interface for Facilitating Transaction (सिंगल विंडो इंटरफेस फॉर फैसिलिटिंग ट्रांजेक्शन)

Question ID : 630680406370  
 Option 1 ID : 6306801584705  
 Option 2 ID : 6306801584706  
 Option 3 ID : 6306801584707  
 Option 4 ID : 6306801584704  
 Status : Answered  
 Chosen Option : 2

Q.20 Which of the following is NOT a sustainability initiative?

- Ans  1. Save Food, Share Food  
 2. BHOG  
 3. Jaivik Bharat  
 4. RUCO

Question ID : 630680406374  
Option 1 ID : 6306801584721  
Option 2 ID : 6306801584723  
Option 3 ID : 6306801584720  
Option 4 ID : 6306801584722  
Status : Answered  
Chosen Option : 1

Q.21 वर्तमान में, कितनी रेफरल खाद्य प्रयोगशालाएं (referral food laboratories) हैं?

- Ans  1. 15  
 2. 10  
 3. 25  
 4. 20

Question ID : 630680406367  
Option 1 ID : 6306801584693  
Option 2 ID : 6306801584692  
Option 3 ID : 6306801584695  
Option 4 ID : 6306801584694  
Status : Answered  
Chosen Option : 4

Q.22 The focus of the Diet4Life initiative is on:

- Ans  1. in-birth errors of metabolism  
 2. infant errors of metabolism  
 3. inborn errors of mechanism  
 4. inborn errors of metabolism

Question ID : 630680406385  
Option 1 ID : 6306801584766  
Option 2 ID : 6306801584764  
Option 3 ID : 6306801584767  
Option 4 ID : 6306801584765  
Status : Answered  
Chosen Option : 2

Q.23 Currently, the Food Authority has commissioned 21 scientific panels, which comprise \_\_\_\_\_.

- Ans
- 1. 12 horizontal and 9 vertical panels
  - 2. 10 horizontal and 11 vertical panels
  - 3. 9 horizontal and 12 vertical panels
  - 4. 11 horizontal and 10 vertical panels

Question ID : 630680406365  
Option 1 ID : 6306801584687  
Option 2 ID : 6306801584685  
Option 3 ID : 6306801584686  
Option 4 ID : 6306801584684  
Status : Answered  
Chosen Option : 2

Q.24 ईट राइट इंडिया (Eat Right India) में आपूर्ति-पक्ष की पहल (supply-side initiative) निम्नलिखित में से कौन-सी है?

- Ans
- 1. FoSTaC
  - 2. ट्रांस-फैट-फ्री फूड (Trans-fat-free food)
  - 3. फूड फोर्टीफिकेशन (Food fortification)
  - 4. ईट राइट कैम्पस (Eat Right Campus)

Question ID : 630680406373  
Option 1 ID : 6306801584716  
Option 2 ID : 6306801584718  
Option 3 ID : 6306801584717  
Option 4 ID : 6306801584719  
Status : Answered  
Chosen Option : 4

Q.25 Food fortification addresses the issue of deficiency of \_\_\_\_\_.

- Ans
- 1. micronutrients
  - 2. vitamins
  - 3. macronutrients
  - 4. proteins

Question ID : 630680406378  
Option 1 ID : 6306801584737  
Option 2 ID : 6306801584739  
Option 3 ID : 6306801584736  
Option 4 ID : 6306801584738  
Status : Answered  
Chosen Option : 1