

Punjab Excise Inspector

Previous Year Paper
8 April 2018



Adda247

Test Prime

ALL EXAMS, ONE SUBSCRIPTION



1,00,000+
Mock Tests



**Personalised
Report Card**



**Unlimited
Re-Attempt**



600+
Exam Covered



25,000+ Previous
Year Papers



500%
Refund



ATTEMPT FREE MOCK NOW

- The ruler of Punjab during first and second Anglo-Sikh wars was :
a) Ranjit Singh b) Dalip Singh c) Diwan Mulraj d) None of these
ਪਹਿਲੇ ਅਤੇ ਦੂਸਰੇ ਐਂਗਲੋ-ਸਿੱਖ ਯੁੱਧ ਦੌਰਾਨ ਪੰਜਾਬ ਦੇ ਸ਼ਾਸਕ ਸਨ :
ਅ) ਰਣਜੀਤ ਸਿੰਘ b) ਦਲੀਪ ਸਿੰਘ c) ਦਿਵਾਨ ਮੂਲਰਾਜ d) ਇਨ੍ਹਾਂ ਵਿਚੋਂ ਕੋਈ ਨਹੀਂ
- 'Kamagata Maru' was the name of a :
a) hill b) aeroplane c) train d) Ship
ਕਾਮਾਗਾਟਾ ਮਾਰੂ ਨਾਂ ਸੀ :
a) ਪਹਾੜ b) ਹਵਾਈ ਜਹਾਜ਼ c) ਰੇਲ ਗੱਡੀ d) ਸਮੁੰਦਰੀ ਜਹਾਜ਼
- Which of the following sets of princely states are termed as Phulkian States ?
a) Patiala, Malerkotla, Nabha d) Patiala, Nabha, Jind, Kapurthala
b) Patiala, Jind, Malerkotla d) Patiala, Jind, Nabha
ਇਨ੍ਹਾਂ ਵਿਚੋਂ ਕਿਹੜੀਆਂ ਰਿਆਸਤਾਂ ਦਾ ਸਮੂਹ ਫੂਲਕੀਆਂ ਰਾਜ ਵਜੋਂ ਜਾਣਿਆ ਜਾਂਦਾ ਹੈ ?
a) ਪਟਿਆਲਾ, ਮਲੇਰਕੋਟਲਾ, ਨਾਭਾ c) ਪਟਿਆਲਾ, ਨਾਭਾ, ਜੀਂਦ, ਕਪੂਰਥਲਾ
b) ਪਟਿਆਲਾ, ਜੀਂਦ, ਮਲੇਰਕੋਟਲਾ d) ਪਟਿਆਲਾ, ਜੀਂਦ, ਨਾਭਾ
- The title of 'Punjab Kesari' was conferred on :
a) Ranjit Singh b) Bhagat Singh c) Lala Lajpat Rai d) Sardar Baldev Singh
'ਪੰਜਾਬ ਕੇਸਰੀ' ਦਾ ਖਿਤਾਬ ਕਿਸ ਨੂੰ ਪ੍ਰਦਾਨ ਕੀਤਾ ਗਿਆ ?
a) ਰਣਜੀਤ ਸਿੰਘ b) ਭਗਤ ਸਿੰਘ c) ਲਾਲਾ ਲਾਜਪਤ ਰਾਏ d) ਸਰਦਾਰ ਬਲਦੇਵ ਸਿੰਘ
- Who is known as the father of Punjabi novel ?
a) Nanak Singh b) Balwant Gargi c) Gurdial Singh d) Gurmukh Singh
ਪੰਜਾਬੀ ਨਾਵਲ ਦਾ ਪਿਤਾਮਾ ਕਿਸ ਨੂੰ ਕਿਹਾ ਜਾਂਦਾ ਹੈ ?
a) ਨਾਨਕ ਸਿੰਘ b) ਬਲਵੰਤ ਗਾਰਗੀ c) ਗੁਰਦਿਆਲ ਸਿੰਘ d) ਗੁਰਮੁੱਖ ਸਿੰਘ
- When did the British annex Punjab ?
a) March 1849 b) March 1848 c) August 1947 d) April 1837
ਬ੍ਰਿਟਿਸ਼ ਨੇ ਪੰਜਾਬ ਨੂੰ ਕਦੋਂ ਆਪਣੇ ਵਿਚ ਸ਼ਾਮਲ ਕੀਤਾ ?
ਅ) ਮਾਰਚ 1849 b) ਮਾਰਚ 1848 c) ਅਗਸਤ 1947 d) ਅਪ੍ਰੈਲ 1837
- Which of the following battle is known as the 'Battle of Guns' ?
a) Battle of Sobraon b) Battle of Mudki c) Battle of Chillianwali d) Battle of Gujarat
ਹੇਠ ਲਿਖੀਆਂ ਲੜਾਈਆਂ ਵਿਚੋਂ ਕਿਹੜੀ ਲੜਾਈ ਨੂੰ 'ਬੰਦੂਕਾਂ ਦੀ ਲੜਾਈ' ਦੇ ਨਾਂ ਵਜੋਂ ਜਾਣਿਆ ਜਾਂਦਾ ਹੈ ?
a) ਸੋਬਰਾ ਦੀ ਲੜਾਈ b) ਮੁੱਦਕੀ ਦੀ ਲੜਾਈ c) ਚਿਲਿਆਂ ਵਾਲੀ ਦੀ ਲੜਾਈ d) ਗੁਜਰਾਤ ਦੀ ਲੜਾਈ
- Which animal was worshipped in the Kuka Movement ?
a) Cow b) Horse c) Sheep d) Ox
ਕੂਕਾ ਅੰਦੋਲਨ ਵਿਚ ਕਿਸ ਜਾਨਵਰ ਨੂੰ ਪੂਜਿਆ ਗਿਆ ਸੀ ?
a) ਗਊ b) ਘੋੜਾ c) ਭੇਡ d) ਬਲਦ

9. Who was the 'Rajpramukh' of PEPSU at the time of its creation in 1948 ?
 a) Yadavindra Singh b) Jagatjit Singh c) Gian Singh Rerewale d) Raghbir Singh
 1948 ਵਿਚ ਪੈਪਸੂ ਦੀ ਸਥਾਪਨਾ ਸਮੇਂ ਇਸ ਦਾ ਰਾਜ-ਪ੍ਰਮੁੱਖ ਕੌਣ ਸੀ ?
 a) ਯਾਦਵਿੰਦਰਾ ਸਿੰਘ b) ਜਗਤਜੀਤ ਸਿੰਘ c) ਗਿਆਨ ਸਿੰਘ ਰਰੇਵਾਲ d) ਰਾਘਬੀਰ ਸਿੰਘ
10. 'Sanghol', associated with the Indus Valley Civilization, is in the district of :
 a) Patiala b) Ludhiana c) Rupnagar d) Fatehgarh Sahib
 ਸਿੰਧੂ (Indus) ਘਾਟੀ ਸਭਿਅਤਾ ਨਾਲ ਸੰਬੰਧਿਤ ਸੰਘੋਲ ਕਿਸ ਜਿਲ੍ਹੇ ਵਿਚ ਹੈ ?
 a) ਪਟਿਆਲਾ b) ਲੁਧਿਆਣਾ c) ਰੂਪਨਗਰ d) ਫਤਹਿਗੜ੍ਹ ਸਾਹਿਬ
11. Which of the following ornament is not worn by women of Punjab on forehead ?
 a) Dumni b) Barwata c) Mauli d) Kaska
 ਪੰਜਾਬੀ ਮੁਟਿਆਰ ਇਨ੍ਹਾਂ ਵਿਚੋਂ ਕਿਹੜਾ ਗਹਿਣਾ ਮੱਥੇ ਉੱਤੇ ਨਹੀਂ ਸਜਾਉਂਦੀ ?
 a) ਡੁਮਨੀ b) ਬਰਵਾਟਾ c) ਮੌਲੀ d) ਕਸਕਾ
12. Which of the following is not a folk song of Punjab ?
 a) Mahia b) Suhag c) Ludi d) Tappey
 ਇਨ੍ਹਾਂ ਵਿਚੋਂ ਕਿਹੜਾ ਲੋਕ ਗੀਤ ਪੰਜਾਬ ਨਾਲ ਸੰਬੰਧਿਤ ਨਹੀਂ ?
 a) ਮਾਹੀਆ b) ਸੁਹਾਗ c) ਲੁੱਡੀ d) ਟੱਪੇ
13. Gugga Naumi Fair is held in the month of :
 a) Sawan b) Jeth c) Bhadon d) Phagun
 ਗੁੱਗਾ ਨੌਮੀ ਦਾ ਮੇਲਾ ਕਿਹੜੇ ਮਹੀਨੇ ਲੱਗਦਾ ਹੈ ?
 a) ਸਾਉਣ b) ਜੇਠ c) ਭਾਦੋਂ d) ਫੱਗਣ
14. Rauza Sharif Urs is celebrated at which of the following places ?
 a) Malerkotla b) Sirhind c) Qadian d) Jagraon
 ਰੌਜ਼ਾ ਸ਼ਰੀਫ ਉਰਸ ਇਨ੍ਹਾਂ ਵਿਚੋਂ ਕਿਸ ਥਾਂ ਉੱਤੇ ਮਨਾਇਆ ਜਾਂਦਾ ਹੈ ?
 a) ਮਲੇਰਕੋਟਲਾ b) ਸਰਹਿੰਦ c) ਕਾਦੀਆਂ d) ਜਗਰਾਉਂ
15. Where is the 'Gadri babian da mela' held ?
 a) Ludhiana b) Jalandhar c) Malerkotla d) Sirhind
 ਗਦਰੀ ਬਾਬਿਆਂ ਦਾ ਮੇਲਾ ਕਿੱਥੇ ਲੱਗਦਾ ਹੈ ?
 a) ਲੁਧਿਆਣਾ b) ਜਲੰਧਰ c) ਮਲੇਰਕੋਟਲਾ d) ਸਰਹਿੰਦ
16. What is Stapoo ?
 a) A folk song b) A folk dance c) A children's game d) A folk instrument
 ਸਟਾਪੂ ਹੈ ?
 a) ਲੋਕ ਗੀਤ b) ਲੋਕ ਨਾਚ c) ਬੱਚਿਆਂ ਦੀ ਖੇਡ d) ਲੋਕ ਸਾਜ

17. Where is the biggest art gallery of Punjab located ?

- a) Amritsar b) Ludhiana c) Patiala d) Faridkot

ਪੰਜਾਬ ਦੀ ਸਭ ਤੋਂ ਵੱਡੀ ਆਰਟ ਗੈਲਰੀ ਕਿੱਥੇ ਹੈ ?

- a) ਅੰਮ੍ਰਿਤਸਰ b) ਲੁਧਿਆਣਾ c) ਪਟਿਆਲਾ d) ਫਰੀਦਕੋਟ

18. Which musical instrument is used by Dhadies, who sing traditional ballads of brave warriors and heroes drawn from Sikh History ?

- a) Kato b) Dhad c) Algoza d) Bugdu

ਢਾਡੀਆਂ ਵੱਲੋਂ ਵਰਤਿਆ ਜਾਣ ਵਾਲਾ ਉਹ ਕਿਹੜਾ ਸੰਗੀਤਕ ਸਾਜ ਹੈ, ਜਿਸ ਨੂੰ ਉਹ ਸਿੱਖ ਇਤਿਹਾਸ ਵਿਚ ਮਿਲਦੇ ਬਹਾਦਰ ਯੋਧਿਆਂ ਅਤੇ ਨਾਇਕਾਂ ਦਾ ਰਵਾਇਤੀ ਜਸ-ਗਾਇਨ ਕਰਨ ਸਮੇਂ ਵਰਤਦੇ ਹਨ ?

- a) ਕਾਟੋ b) ਢੱਡ c) ਅਲਗੋਜਾ d) ਬੁਗਦੂ

19. Which of the following pairs is NOT correct ?

- a) Ram Tirath : Amritsar c) Hanuman Mandir : Ludhiana
b) Sodal Mandir : Jalandhar d) Panch Mandir : Kapurthala

ਇਨ੍ਹਾਂ ਵਿਚੋਂ ਕਿਹੜਾ ਸਮੂਹ ਸਹੀ ਨਹੀਂ ?

- a) ਰਾਮ ਤੀਰਥ : ਅੰਮ੍ਰਿਤਸਰ c) ਹਨੂਮਾਨ ਮੰਦਿਰ : ਲੁਧਿਆਣਾ
b) ਸੋਡਲ ਮੰਦਿਰ : ਜਲੰਧਰ d) ਪੰਚ ਮੰਦਿਰ : ਕਪੂਰਥਲਾ

20. 'Aarsi' is an ornament of which part of body ?

- a) Head b) Hand c) Foot d) Ear

ਆਰਸੀ ਸਰੀਰ ਦੇ ਕਿਸ ਅੰਗ ਦਾ ਗਹਿਣਾ ਹੈ ?

- a) ਸਿਰ b) ਹੱਥ c) ਪੈਰ d) ਕੰਨ

21. Which was the first newspaper to be published in India ?

- a) Bombay Samachar b) Bengal Gazette c) Bengal Chronicle d) The Hindu

ਭਾਰਤ ਵਿਚ ਸਭ ਤੋਂ ਪਹਿਲਾਂ ਪ੍ਰਕਾਸ਼ਿਤ ਹੋਣ ਵਾਲਾ ਸਮਾਚਾਰ ਪੱਤਰ ਹੈ ?

- a) ਬੰਬੇ ਸਮਾਚਾਰ b) ਬੰਗਾਲ ਗਜ਼ਟ c) ਬੰਗਾਲ ਕ੍ਰਾਨੀਕਲ d) ਦੀ ਹਿੰਦੂ

22. The instrument used for recording earthquake waves is :

- a) barometer b) hydrograph c) pantograph d) seismograph

ਭੂਚਾਲ ਲਹਿਰਾਂ ਨੂੰ ਰਿਕਾਰਡ ਕਰਨ ਲਈ ਵਰਤਿਆ ਜਾਣ ਵਾਲਾ ਯੰਤਰ ਹੈ ?

- a) ਬੈਰੋਮੀਟਰ b) ਹਾਈਡ੍ਰੋਗ੍ਰਾਫ c) ਪੈਂਟੋਗ੍ਰਾਫ d) ਸਿਸਮੋਗ੍ਰਾਫ

23. Lakshadweep is a group of how many islands ?

- a) 22 b) 25 c) 32 d) 36

ਲਕਸ਼ਦੀਪ ਕਿੰਨੇ ਟਾਪੂਆਂ ਦਾ ਸਮੂਹ ?

- a) 22 b) 25 c) 32 d) 36

24. Separation of the Judiciary from the Executive is enjoined by :
 a) Preamble b) Directive Principle c) Seventh Schedule d) Judicial decision
 ਸੁਤੰਤਰ ਕਾਰਜਕਾਰੀ ਤੋਂ ਨਿਆਂਪਾਲਿਕਾ ਨੂੰ ਅਲੱਗ ਕਰਨ ਦਾ ਹੁਕਮ ਕਿਸ ਵਿਚ ਕੀਤਾ ਗਿਆ ਹੈ ?
 a) ਪ੍ਰਸਤਾਵਨਾ b) ਡਾਇਰੈਕਟਿਵ ਸਿਧਾਂਤ c) ਸਤਵੀਂ ਸਮਾਂ-ਸੂਚੀ d) ਜੂਡੀਸ਼ੀਅਲ ਡਿਸਿਜਨ
25. Which of the following cases cannot be filed directly in the Supreme Court ?
 a) Disputes between two or more States
 b) Cases against encroachment on Fundamental Rights
 c) If one's property is forcefully occupied by the other
 d) Both (a) and (b)
 ਹੇਠ ਲਿਖਿਆਂ ਵਿਚੋਂ ਕਿਹੜਾ ਕੇਸ ਸੁਪਰੀਮ ਕੋਰਟ ਵਿਚ ਸਿੱਧੇ ਤੌਰ ਉੱਤੇ ਫਾਇਲ ਨਹੀਂ ਕੀਤਾ ਜਾ ਸਕਦਾ ?
 a) ਦੋ ਜਾਂ ਦੋ ਤੋਂ ਵੱਧ ਰਾਜਾਂ ਦੇ ਵਿਵਾਦ ਵਿਚਕਾਰ
 b) ਮੌਲਿਕ ਅਧਿਕਾਰਾਂ ਉੱਤੇ ਅਯੋਗਤਾ ਦੇ ਵਿਰੁੱਧ ਕੇਸ
 c) ਜੇ ਕਿਸੇ ਦੀ ਜਾਇਦਾਦ ਨੂੰ ਕਿਸੇ ਦੂਜੇ ਵੱਲੋਂ ਜ਼ਬਰਦਸਤੀ ਕਬਜ਼ਾ ਕੀਤਾ ਜਾਂਦਾ ਹੈ
 d) ਦੋਵੇਂ (a) ਅਤੇ (b)
26. A Scheduled Bank is one which is included in the :
 a) II Schedule of Banking Regulation Act c) II Schedule of Reserve Bank of India Act
 b) II Schedule of Constitution d) None of these
 ਅਨੁਸੂਚਿਤ ਬੈਂਕ ਉਹ ਹੈ ਜਿਹੜਾ ਹੇਠ ਲਿਖਿਆਂ ਵਿਚ ਸ਼ਾਮਿਲ ਹੈ ?
 a) ਬੈਂਕਿੰਗ ਨਿਯਮ ਐਕਟ ਦੀ ਦੂਜੀ ਅਨੁਸੂਚੀ c) ਭਾਰਤੀ ਰਿਜ਼ਰਵ ਬੈਂਕ ਐਕਟ ਦੀ ਦੂਜੀ ਅਨੁਸੂਚੀ
 b) ਸੰਵਿਧਾਨ ਦੀ ਦੂਜੀ ਅਨੁਸੂਚੀ d) ਇਨ੍ਹਾਂ ਵਿਚੋਂ ਕੋਈ ਨਹੀਂ
27. Who is the originator of "Green Revolution" in India ?
 a) Norman E. Borlaug b) MS Swaminathan c) Garry Backer d) Manmohan Singh
 ਭਾਰਤ ਵਿਚ "ਹਰੇ ਇਨਕਲਾਬ" ਦੀ ਸ਼ੁਰੂਆਤ ਕਿਸ ਨੇ ਕੀਤੀ ?
 a) ਨੋਰਮਨ ਈ. ਬੋਰਲਾਅ b) ਐਮ.ਐਸ. ਸਵਾਮੀਨਾਥਨ c) ਗੈਰੀ ਬੈਕਰ d) ਮਨਮੋਹਨ ਸਿੰਘ
28. A Geostationary satellite :
 a) revolves about the polar axis
 b) has a time period less than that of the near earth satellite
 c) moves faster than a near earth satellite
 d) is stationary in the space
 ਇਕ ਜਿਊਸਟੇਸ਼ਨਰੀ ਉਪਗ੍ਰਹਿ :
 a) ਪੋਲਰ ਧੁਰੀ ਦੁਆਲੇ ਘੁੰਮਦਾ ਹੈ।
 b) ਧਰਤੀ ਨਜ਼ਦੀਕੀ ਉਪਗ੍ਰਹਿ ਨਾਲੋਂ ਘੱਟ ਸਮਾਂ ਮਿਆਦ ਲੈਂਦਾ ਹੈ।
 c) ਧਰਤੀ ਨਜ਼ਦੀਕੀ ਉਪਗ੍ਰਹਿ ਨਾਲੋਂ ਤੇਜ਼ੀ ਨਾਲ ਚਲਦਾ ਹੈ।
 d) ਸਪੇਸ ਵਿਚ ਸਥਿਰ ਹੈ।
29. Dialysis is used for people with defective kidneys. It involves the process of :
 a) adsorption b) osmosis c) electrophoresis d) diffusion
 ਡਾਇਲਿਸਿਸ ਦੀ ਵਰਤੋਂ ਖਰਾਬ ਗੁਰਦਿਆਂ ਨਾਲ ਪੀੜ੍ਹਤ ਲੋਕਾਂ ਲਈ ਕੀਤੀ ਜਾਂਦੀ ਹੈ। ਇਸ ਵਿਚ ਹੇਠ ਲਿਖੀ ਪ੍ਰਕ੍ਰਿਆ ਸ਼ਾਮਿਲ ਹੈ ?
 a) ਐਡਜ਼ੋਰਪਸ਼ਨ b) ਔਸਮੋਸਿਸ c) ਇਲੈਕਟ੍ਰੋਫੋਰੈਸਿਸ d) ਫੈਲਣ ਦੀ ਪ੍ਰਕ੍ਰਿਆ

30. Which one of the following day is observed as the World Environment Day ?
a) 28th February b) 4th March c) 5th June d) 16th September

ਹੇਠ ਲਿਖਿਆ ਵਿੱਚੋਂ ਕਿਹੜੇ ਦਿਨ ਵਿਸ਼ਵ ਵਾਤਾਵਰਨ ਦਿਵਸ ਵਜੋਂ ਮਨਾਇਆ ਜਾਂਦਾ ਹੈ ?

- a) 28 ਫਰਵਰੀ b) 4 ਮਾਰਚ c) 5 ਜੂਨ d) 16 ਸਿਤੰਬਰ

31. Swami Vivekananda's Birthday is observed in India as :

- a) All Saints Day b) Hindu Renaissance Day c) National Youth Day d) World Religious Day

ਭਾਰਤ ਵਿੱਚ ਸਵਾਮੀ ਵਿਵੇਕਾਨੰਦ ਦਾ ਜਨਮ ਦਿਨ ਮਨਾਇਆ ਜਾਂਦਾ ਹੈ :

- a) ਸਰਬ ਸੰਤ ਦਿਵਸ ਦੇ ਤੌਰ ਤੇ c) ਰਾਸ਼ਟਰੀ ਯੁਵਾ ਦਿਵਸ ਦੇ ਤੌਰ ਤੇ
b) ਹਿੰਦੂ ਪੁਨਰਜਾਤ ਦਿਵਸ ਦੇ ਤੌਰ ਤੇ d) ਵਿਸ਼ਵ ਧਾਰਮਿਕ ਦਿਵਸ ਦੇ ਤੌਰ ਤੇ

32. The audible frequency range of human ear is :

- a) 20 Hertz to 200 Hertz c) 200 Hertz to 2000 Hertz
b) 2 Hertz to 20 Hertz d) 20 Hertz to 20000 Hertz

ਮਨੁੱਖੀ ਕੰਨਾਂ ਦੀ ਆਵਾਜ਼ੀ ਬਾਰੰਬਾਰਤਾ ਸੀਮਾ ਹੈ :

- a) 20 ਹਾਰਟਜ਼ ਤੋਂ 200 ਹਾਰਟਜ਼ c) 200 ਹਾਰਟਜ਼ ਤੋਂ 2000 ਹਾਰਟਜ਼
b) 2 ਹਾਰਟਜ਼ ਤੋਂ 20 ਹਾਰਟਜ਼ d) 20 ਹਾਰਟਜ਼ ਤੋਂ 20000 ਹਾਰਟਜ਼

33. Two smallest continent of the world are :

- a) Australia and Antarctica c) Australia and Europe
b) Antarctica and Europe d) Australia and South America

ਵਿਸ਼ਵ ਦੇ ਦੋ ਸਭ ਤੋਂ ਛੋਟੇ ਮਹਾਂਦੀਪ ਹਨ ?

- a) ਅਸਟ੍ਰੇਲੀਆ ਅਤੇ ਐਂਟਾਰਕਟਿਕਾ c) ਅਸਟ੍ਰੇਲੀਆ ਅਤੇ ਯੂਰਪ
b) ਐਂਟਾਰਕਟਿਕਾ d) ਅਸਟ੍ਰੇਲੀਆ ਅਤੇ ਸਾਊਥ ਅਮਰੀਕਾ

34. Amnesty International is a :

- a) Human Rights group c) refugee camp in Croatia
b) UN agency to fight global terrorism d) wing of the World Bank

ਅਮਨੈਸਟੀ ਇੰਟਰਨੈਸ਼ਨਲ ਹੈ :

- a) ਮਨੁੱਖੀ ਅਧਿਕਾਰ ਸਮੂਹ c) ਕ੍ਰੋਏਸ਼ੀਆ ਵਿੱਚ ਸ਼ਰਨਾਰਥੀ ਕੈਂਪ
b) ਗਲੋਬਲ ਅੱਤਵਾਦ ਨਾਲ ਲੜਨ ਵਾਲੀ ਸੰਯੁਕਤ ਰਾਸ਼ਟਰ ਅਜੈਂਸੀ d) ਵਿਸ਼ਵ ਬੈਂਕ ਦੀ ਇੱਕ ਸ਼ਾਖਾ

35. Who invented Black Box Flight Recorder ?

- a) Robert Stephenson b) John Shorthand c) David Warren d) David Robinson

ਬਲੈਕ ਬਾਕਸ ਫਲਾਈਟ ਰਿਕਾਰਡ ਦੀ ਖੋਜ ਕਿਸ ਨੇ ਕੀਤੀ ?

- a) ਰਾਬਟ ਸਟੈਫਨਸਨ b) ਜਾਨ ਸ਼ਾਰਟਹੈਂਡ c) ਡੇਵਿਡ ਵਾਰਨ d) ਡੇਵਿਡ ਰਾਬਿਨਸਨ

36. Recently which country's President has conferred "Grand Collar of the State" (Highest Award) on PM Narendra Modi ?

- a) Palestine b) Oman c) Bahrain d) Turkey

ਹਾਲ ਹੀ ਵਿੱਚ ਕਿਹੜੇ ਦੇਸ਼ ਦੇ ਰਾਸ਼ਟਰਪਤੀ ਨੇ ਪ੍ਰਧਾਨ ਮੰਤਰੀ ਨਰਿੰਦਰ ਮੋਦੀ ਨੂੰ "ਰਾਜ ਦੇ ਗਰੈਂਡ ਕਾਲਰ" (ਸਰਵ-ਉੱਚ ਅਵਾਰਡ) ਨਾਲ ਸਨਮਾਨਿਤ ਕੀਤਾ ਹੈ ?

- a) ਪਲੇਸਟੀਨ b) ਓਮਾਨ c) ਬਾਹਰੀਨ d) ਟਰਕੀ

37. According to the latest World Wealth report, India's ranking in the list of wealthiest countries in 2017 is :
 a) 6th b) 8th c) 9th d) 11th
 2017 ਦੀ ਤਾਜ਼ਾ ਵਿਸ਼ਵ ਸੰਪਤੀ ਰਿਪੋਰਟ ਅਨੁਸਾਰ ਸਭ ਤੋਂ ਅਮੀਰ ਦੇਸ਼ਾਂ ਦੀ ਸੂਚੀ ਵਿਚ ਭਾਰਤ ਦਾ ਦਰਜਾ ਹੈ :
 a) ਛੇਵਾਂ b) ਅੱਠਵਾਂ c) ਨੌਵਾਂ d) ਗਿਆਰਵਾਂ
38. Which actor played the role of Rani Padmavati in the film 'Padmavat' ?
 a) Priyanka Chopra b) Sonam Kapoor c) Deepika Padukone d) Katrina Kaif
 ਫਿਲਮ ਪਦਮਾਵਤ ਵਿਚ ਕਿਸ ਅਭਿਨੇਤਰੀ ਨੇ ਰਾਣੀ ਪਦਮਾਵਤੀ ਦੀ ਭੂਮਿਕਾ ਨਿਭਾਈ ?
 a) ਪ੍ਰਿਅੰਕਾ ਚੋਪੜਾ b) ਸੋਨਮ ਕਪੂਰ c) ਦੀਪਿਕਾ ਪਾਦੁਕੋਨੇ d) ਕੈਟਰੀਨਾ ਕੈਫ
39. The iconic Teen Murti Chowk in New Delhi has been renamed as :
 a) Teen Murti Jaffa Chowk b) Teen Murti Safed Chowk c) Teen Murti Area Chowk d) Teen Murti Haifa Chowk
 ਨਵੀਂ ਦਿੱਲੀ ਵਿਚ ਆਈਕਾਨਿਕ (iconic) ਤੀਨ ਮੂਰਤੀ ਚੌਕ ਦਾ ਨਾਂ ਬਦਲ ਕੇ ਰੱਖਿਆ ਗਿਆ ਹੈ :
 a) ਤੀਨ ਮੂਰਤੀ ਜੱਫਾ ਚੌਕ b) ਤੀਨ ਮੂਰਤੀ ਸੇਫ਼ਦ ਚੌਕ c) ਤੀਨ ਮੂਰਤੀ ਏਰੀਆ ਚੌਕ d) ਤੀਨ ਮੂਰਤੀ ਹਾਇਫਾ ਚੌਕ
40. Who has been honoured with the 2018 Sahitya Akademi Bhasha Samman Award ?
 a) Niranjana Sharma b) Shesh Anand Madhukar c) R Sankarayan d) Anjum S Majumdar
 ਹੇਠ ਲਿਖਿਆ ਵਿਚੋਂ ਕਿਸ ਨੂੰ 2018 ਦੇ ਸਾਹਿਤ ਅਕਾਦਮੀ ਭਾਸ਼ਾ ਸਨਮਾਨ ਅਵਾਰਡ ਨਾਲ ਸਨਮਾਨਿਤ ਕੀਤਾ ਗਿਆ ਹੈ ?
 a) ਨਿਰੰਜਨਾ ਸ਼ਰਮਾ b) ਸ਼ੇਸ਼ ਆਨੰਦ ਮਧੂਕਰ c) ਆਰ. ਸੰਕਾਰਾਯਨ d) ਅੰਜੁਮ ਐੱਸ. ਮਜੂਮਦਾਰ
41. Currently which among the following Indian cities figure in top five UN clean city list ?
 a) Kovalam b) Alappuzha c) Kannur d) Munnar
 ਸੰਯੁਕਤ ਰਾਸ਼ਟਰ ਦੀ ਪੰਜ ਸਭ ਤੋਂ ਵੱਧ ਸਾਫ਼-ਸੁਥਰੇ ਸ਼ਹਿਰਾਂ ਦੀ ਸੂਚੀ ਵਿਚ ਕਿਹੜਾ ਭਾਰਤੀ ਸ਼ਹਿਰ ਹੁਣੇ-ਹੁਣੇ ਸ਼ਾਮਲ ਹੋਇਆ ਹੈ ?
 a) ਕੋਵਲਮ b) ਅਲਪੁੱਜਾ c) ਕੰਨੂਰ d) ਮੁਨਾਰ
42. The train 'Thar Link Express' runs between :
 a) Jaipur & Jodhpur b) Jodhpur & Karachi c) Amritsar & Lahore d) Amritsar & Jaipur
 ਥਾਰ ਲਿੰਕ ਐਕਸਪ੍ਰੈਸ ਰੇਲ ਕਿਹੜੇ ਸ਼ਹਿਰਾਂ ਵਿਚਕਾਰ ਚਲਦੀ ਹੈ ?
 a) ਜੈਪੁਰ ਅਤੇ ਜੋਧਪੁਰ b) ਜੋਧਪੁਰ ਅਤੇ ਕਰਾਚੀ c) ਅੰਮ੍ਰਿਤਸਰ ਅਤੇ ਲਾਹੌਰ d) ਅੰਮ੍ਰਿਤਸਰ ਅਤੇ ਜੈਪੁਰ
43. Which state government has launched DASTAK campaign to eradicate deadly Acute Encephalitis Syndrome (AES) and Japanese Encephalitis (JE) disease leading to death of small children ?
 a) Uttar Pradesh b) Madhya Pradesh c) Andhra Pradesh d) Himachal Pradesh
 ਕਿਹੜੀ ਰਾਜ ਸਰਕਾਰ ਨੇ ਘਾਤਕ ਅਤੇ ਗੰਭੀਰ ਏਸੀਫਲਾਈਟਿਸ ਸਿੰਡਰੋਮ ਅਤੇ ਜਾਪਾਨੀ ਨਿਸ਼ੇਫਲਾਈਟਿਸ ਬਿਮਾਰੀ, ਜਿਸ ਨਾਲ ਛੋਟੇ ਬੱਚਿਆਂ ਦੀ ਮੌਤ ਹੋ ਸਕਦੀ ਹੈ, ਨੂੰ ਖਤਮ ਕਰਨ ਲਈ ਦਸਤਕ (DASTAK) ਨਾਮ ਦੀ ਮੁਹਿੰਮ ਸ਼ੁਰੂ ਕੀਤੀ ਹੈ ?
 a) ਉੱਤਰ ਪ੍ਰਦੇਸ਼ b) ਮੱਧ ਪ੍ਰਦੇਸ਼ c) ਆਂਧਰਾ ਪ੍ਰਦੇਸ਼ d) ਹਿਮਾਚਲ ਪ੍ਰਦੇਸ਼

44. "Me Too" campaign is linked with :

- a) Help stop the widespread prevalence of sexual assault and harassment against women especially in workplace
- ☒ b) Zero disabilities in girls and boys
- c) Atrocities by women against women
- d) Movement against female foeticide

"ਮੀ ਟੂ" ਮੁਹਿੰਮ ਸੰਬੰਧਿਤ ਹੈ :

- a) ਖਾਸ ਤੌਰ ਤੇ ਕੰਮ ਵਾਲੀ ਥਾਂ ਉੱਤੇ ਔਰਤਾਂ ਵਿਰੁੱਧ ਜਿਨਸੀ ਹਮਲੇ ਅਤੇ ਪਰੇਸ਼ਾਨੀ ਦੇ ਵਿਆਪਕ ਪੱਧਰ ਦੀ ਰੋਕਥਾਮ ਵਿਚ ਮਦਦ ਲਈ
- ☒ b) ਕੁੜੀਆਂ ਅਤੇ ਮੁੰਡਿਆਂ ਵਿਚ ਜੀਰੋ ਅਪਾਹਿਜਤਾ
- c) ਔਰਤਾਂ ਵਿਰੁੱਧ ਔਰਤਾਂ ਦੁਆਰਾ ਅਤਿਆਚਾਰ
- d) ਮਾਦਾ ਭਰੂਣ ਹੱਤਿਆ ਦੇ ਵਿਰੁੱਧ ਮੁਹਿੰਮ

45. Who has won the Men's Singles title in the Australian Open 2018 ?

- a) Marlin Cilic
- b) Novak Djokovic
- c) Rafael Nadal
- ☒ d) Roger Federer

2018 ਦੇ ਆਸਟ੍ਰੇਲੀਆ ਓਪਨ 2018 ਦੇ ਪੁਰਸ਼ ਸਿੰਗਲ ਦਾ ਖਿਤਾਬ ਕਿਸ ਨੇ ਜਿੱਤਿਆ ਹੈ ?

- a) ਮਾਰਲਿਨ ਸੀਲਿਕ
- b) ਨੋਵਕ ਡੇਜ਼ੇਕੋਵਿਕ
- c) ਰੈਫੇਲ ਨਡਾਲ
- ☒ d) ਰੋਜਰ ਫੈਡਰਰ

46. The salary of an employee of a company increases every month by 4%. If his salary in August was Rs. 6300, then what would be his approximate salary in month of October of the same year ?

- a) Rs. 6552
- b) Rs. 6967
- ☒ c) Rs. 6814
- d) Rs. 6627

ਇੱਕ ਕੰਪਨੀ ਦੇ ਇੱਕ ਕਰਮਚਾਰੀ ਦੀ ਤਨਖਾਹ ਹਰ ਮਹੀਨੇ 4 ਪ੍ਰਤੀਸ਼ਤ ਵੱਧਦੀ ਹੈ, ਜੇਕਰ ਉਸ ਦੀ ਤਨਖਾਹ ਅਗਸਤ ਵਿਚ 6300 ਰੁਪਏ ਹੋਵੇ ਤਾਂ ਉਸੇ ਸਾਲ ਅਕਤੂਬਰ ਦੇ ਮਹੀਨੇ ਉਸ ਦੀ ਤਨਖਾਹ ਕਿੰਨੀ ਹੋਵੇਗੀ ?

- a) 6552 ਰੁਪਏ
- b) 6967 ਰੁਪਏ
- ☒ c) 6814 ਰੁਪਏ
- d) 6627 ਰੁਪਏ

47. A merchant has 1000 kg of sugar, part of which he sells at 8% profit and the rest at 18% profit. He gains 14% on the whole. The quantity sold at 18% profit is :

- a) 500 kg
- b) 600 kg
- ☒ c) 400 kg
- d) 640 kg

ਇੱਕ ਵਪਾਰੀ ਕੋਲ 1000 ਕਿਲੋਗ੍ਰਾਮ ਚੀਨੀ ਹੈ, ਜਿਸ ਵਿਚੋਂ ਕੁਝ ਹਿੱਸਾ ਉਹ 8 ਪ੍ਰਤੀਸ਼ਤ ਲਾਭ ਅਤੇ ਬਾਕੀ ਦੀ 18 ਪ੍ਰਤੀਸ਼ਤ ਲਾਭ ਉੱਤੇ ਵੇਚਦਾ ਹੈ। ਉਸ ਨੂੰ ਸਾਰੀ ਚੀਨੀ ਉੱਤੇ 14 ਪ੍ਰਤੀਸ਼ਤ ਦਾ ਵਾਧਾ ਹੁੰਦਾ ਹੈ। 18 ਪ੍ਰਤੀਸ਼ਤ ਲਾਭ ਉੱਤੇ ਵੇਚੀ ਗਈ ਚੀਨੀ ਦੀ ਮਾਤਰਾ ਹੈ ?

- a) 500 ਕਿਲੋਗ੍ਰਾਮ
- ☒ b) 600 ਕਿਲੋਗ੍ਰਾਮ
- c) 400 ਕਿਲੋਗ੍ਰਾਮ
- d) 640 ਕਿਲੋਗ੍ਰਾਮ

48. A seller marks his goods 30% above their cost price but allows 15% discount for cash payment. His percentage of profit when sold in cash, is :

- a) 10.5%
- b) 15%
- ☒ c) 9%
- d) 8.5%

ਇੱਕ ਵਿਕਰੇਤਾ ਲਾਗਤ ਮੁੱਲ ਤੋਂ ਆਪਣੇ ਸਾਮਾਨ ਦੀ ਕੀਮਤ 30 ਪ੍ਰਤੀਸ਼ਤ ਉੱਪਰ ਰੱਖਦਾ ਹੈ, ਪਰ ਨਕਦ ਭੁਗਤਾਨ ਉੱਤੇ 15 ਪ੍ਰਤੀਸ਼ਤ ਛੂਟ ਦਿੰਦਾ ਹੈ। ਸਾਮਾਨ ਨੂੰ ਨਕਦ ਵੇਚਣ ਉੱਤੇ ਉਸ ਦਾ ਲਾਭ ਪ੍ਰਤੀਸ਼ਤ ਹੈ ?

- ☒ a) 10.5%
- b) 15%
- c) 9%
- d) 8.5%

49. A principal amounts to Rs. 944 in 3 years and to Rs. 1040 in 5 years, each sum being invested at the same simple interest. The principal was :

a) Rs. 750 b) Rs. 800 c) Rs. 850 d) Rs. 900

ਇੱਕ ਮੂਲ ਰਾਸ਼ੀ ਸਾਧਾਰਨ ਵਿਆਜ ਤੇ ਨਿਵੇਸ਼ ਕੀਤੇ ਜਾਣ ਤੇ 3 ਸਾਲਾਂ ਵਿਚ 944 ਰੁਪਏ ਅਤੇ 5 ਸਾਲਾਂ ਵਿਚ 1040 ਰੁਪਏ ਹੋ ਜਾਂਦੀ ਹੈ। ਉਹ ਮੂਲ ਰਾਸ਼ੀ ਹੈ :

a) 750 ਰੁਪਏ b) 800 ਰੁਪਏ c) 850 ਰੁਪਏ d) 900 ਰੁਪਏ

50. A cat takes 5 leaps for every 4 leaps of a dog but 3 leaps of the dog were equal to 4 leaps of the cat. What is the ratio of the speeds of the cat to that of the dog ?

a) 11 : 15 b) 15 : 11 c) 16 : 13 d) 15 : 16

ਇੱਕ ਬਿੱਲੀ ਇੱਕ ਕੁੱਤੇ ਦੀ ਚਾਰ ਛਾਲਾਂ ਦੀ ਦੂਰੀ ਪੰਜ ਛਾਲਾਂ ਵਿਚ ਪੂਰੀ ਕਰਦੀ ਹੈ, ਪਰ ਕੁੱਤੇ ਦੀ ਤਿੰਨ ਛਾਲਾਂ ਦੀ ਦੂਰੀ ਬਿੱਲੀ ਦੇ ਚਾਰ ਛਾਲਾਂ ਦੇ ਬਰਾਬਰ ਹੈ। ਕੁੱਤੇ ਅਤੇ ਬਿੱਲੀ ਦੀ ਗਤੀ ਵਿਚ ਅਨੁਪਾਤ ਦੱਸੋ ?

a) 11 : 15 b) 15 : 11 c) 16 : 13 d) 15 : 16

51. The ratio between the present ages of Indu and Gurpreet is 3 : 8, respectively. After 8 years, Indu's age will be 20 years. What was Gurpreet's age 5 years ago ?

a) 37 years b) 27 years c) 28 years d) 38 years

ਇੰਦੂ ਅਤੇ ਗੁਰਪ੍ਰੀਤ ਦੇ ਮੌਜੂਦਾ ਉਮਰ ਵਿਚ ਅਨੁਪਾਤ ਕ੍ਰਮਵਾਰ 3:8 ਹੈ। ਅੱਠ ਸਾਲਾਂ ਬਾਅਦ ਇੰਦੂ ਦੀ ਉਮਰ 20 ਸਾਲ ਹੋਵੇਗੀ। ਪੰਜ ਸਾਲ ਪਹਿਲਾਂ ਗੁਰਪ੍ਰੀਤ ਦੀ ਉਮਰ ਕਿੰਨੀ ਸੀ ?

a) 37 ਸਾਲ b) 27 ਸਾਲ c) 28 ਸਾਲ d) 38 ਸਾਲ

52. Men, women and children are employed to do a work in the proportion of 3:2:1 and their wages as 5:3:2. When 90 men are employed, total daily wages of all amounts to Rs. 10350. Find the daily wages of one man.

a) Rs. 45 b) Rs. 57.5 c) Rs. 115 d) Rs. 75

ਮਰਦਾਂ, ਔਰਤਾਂ ਅਤੇ ਬੱਚਿਆਂ ਨੂੰ 3:2:1 ਦੇ ਅਨੁਪਾਤ ਵਿਚ ਕੰਮ ਕਰਨ ਲਈ ਨਿਯੁਕਤ ਕੀਤਾ ਜਾਂਦਾ ਹੈ ਅਤੇ ਉਨ੍ਹਾਂ ਦੀ ਤਨਖਾਹ 5:3:2 ਦੇ ਅਨੁਪਾਤ ਵਿਚ ਹੈ, ਜੇਕਰ 90 ਮਰਦਾਂ ਨੂੰ ਨਿਯੁਕਤ ਕੀਤਾ ਜਾਵੇ ਤਾਂ ਸਾਰਿਆਂ ਦੀ ਕੁੱਲ ਤਨਖਾਹ 10350 ਰੁਪਏ ਬਣਦੀ ਹੈ। ਇੱਕ ਮਰਦ ਦੀ ਰੋਜ਼ਾਨਾ ਤਨਖਾਹ ਹੈ ?

a) 45 ਰੁਪਏ b) 57.5 ਰੁਪਏ c) 115 ਰੁਪਏ d) 75 ਰੁਪਏ

53. A man decides to travel 80 km in 8 hours, partly by foot and partly on a bicycle. If his speed on foot is 8 km/hour and on bicycle 16 km/hour, what distance would he travel on foot ?

a) 20 km b) 30 km c) 48 km d) 60 km

ਇੱਕ ਆਦਮੀ 80 ਕਿਲੋ ਮੀਟਰ ਦੇ ਸਫ਼ਰ ਦਾ ਕੁੱਝ ਹਿੱਸਾ ਪੈਦਲ ਅਤੇ ਕੁਝ ਹਿੱਸਾ ਸਾਈਕਲ ਨਾਲ 8 ਘੰਟਿਆਂ ਵਿਚ ਕਰਨ ਦਾ ਫੈਸਲਾ ਕਰਦਾ ਹੈ। ਜੇਕਰ ਉਸ ਦੀ ਪੈਦਲ ਗਤੀ 8 ਕਿਲੋ ਮੀਟਰ ਪ੍ਰਤੀ ਘੰਟਾ ਅਤੇ ਸਾਈਕਲ ਦੀ ਗਤੀ 16 ਕਿਲੋ ਮੀਟਰ ਪ੍ਰਤੀ ਘੰਟਾ ਹੋਵੇ ਤਾਂ ਉਹ ਪੈਦਲ ਕਿੰਨੀ ਦੂਰੀ ਤੈਅ ਕਰੇਗਾ ?

a) 20 ਕਿਲੋ ਮੀਟਰ b) 30 ਕਿਲੋ ਮੀਟਰ c) 48 ਕਿਲੋ ਮੀਟਰ d) 60 ਕਿਲੋ ਮੀਟਰ

54. Without stoppages, the speed of a train is 150 km/hour and with stoppages, it is 100 km/hour. How many minutes does the train stop ?

a) 20 minutes b) 15 minutes c) 25 minutes d) 45 minutes

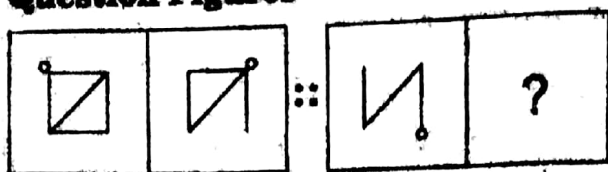
ਇੱਕ ਰੇਲ ਗੱਡੀ ਦੀ ਗਤੀ ਬਿਨਾਂ ਰੁਕੇ 150 ਕਿਲੋ ਮੀਟਰ ਪ੍ਰਤੀ ਘੰਟਾ ਹੈ ਅਤੇ ਸਟੋਪਸ ਨਾਲ ਉੱਤੇ ਰੁਕਦਿਆਂ ਹੋਇਆਂ ਉਸ ਦੀ ਗਤੀ 100 ਕਿਲੋ ਮੀਟਰ ਪ੍ਰਤੀ ਘੰਟਾ ਰਹਿ ਜਾਂਦੀ ਹੈ। ਰੇਲ ਗੱਡੀ ਕਿੰਨੇ ਮਿੰਟ ਰੁਕਦੀ ਹੈ ?

a) 20 ਮਿੰਟ b) 15 ਮਿੰਟ c) 25 ਮਿੰਟ d) 45 ਮਿੰਟ

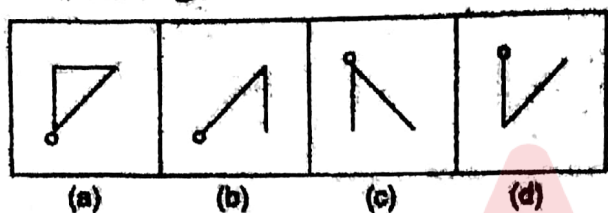
55. The second figure in the first part of the question figures bears certain relationship to the first. Similarly, one of the figure bears the same relationship to the first figure of the second part. You have to select a figure from the set of answer figures which would replace the question mark (?).

ਪ੍ਰਸ਼ਨ ਚਿੱਤਰਾਂ ਦੇ ਪਹਿਲੇ ਹਿੱਸੇ ਵਿਚ ਦੂਜੇ ਚਿੱਤਰ ਦਾ ਪਹਿਲੇ ਚਿੱਤਰ ਨਾਲ ਇਕ ਖਾਸ ਸੰਬੰਧ ਹੈ। ਇਸੇ ਤਰ੍ਹਾਂ ਦੂਸਰੇ ਹਿੱਸੇ ਵਿਚ ਇੱਕ ਚਿੱਤਰ ਦਾ ਦੂਜੇ ਚਿੱਤਰ ਨਾਲ ਸੰਬੰਧ ਹੈ। ਉੱਤਰ ਚਿੱਤਰਾਂ ਵਿਚੋਂ ਚਿੱਤਰ ਚੁਣੋ ਜਿਹੜਾ ਕਿ ਪ੍ਰਸ਼ਨ ਚਿੱਤਰਾਂ ਵਿਚ ਦਿੱਤੇ ਪ੍ਰਸ਼ਨ ਚਿੰਨ੍ਹ (?) ਨੂੰ ਬਦਲ ਦੇਵੇ।

Question Figures



Answer Figures



56. Find the odd word from the given alternatives :

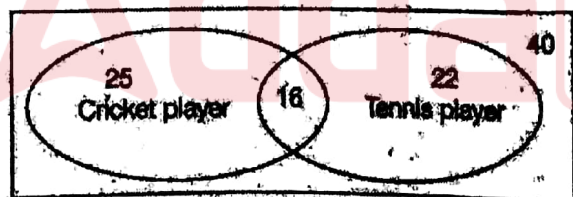
a) Barter b) Purchase c) Sale d) Carter

ਦਿੱਤੇ ਗਏ ਵਿਕਲਪਾਂ ਵਿਚੋਂ ਵੱਖਰਾ ਸ਼ਬਦ ਚੁਣੋ :

a) ਬਾਰਟਰ (Barter) b) ਪਰਚੇਜ (Purchase) c) ਸੇਲ (Sale) d) ਕਾਰਟਰ (Carter)

57. Find out the number of people who do not play any game.

ਹੇਠ ਦਿੱਤੇ ਗਏ ਅੰਕੜਿਆਂ ਵਿਚੋਂ ਉਨ੍ਹਾਂ ਲੋਕਾਂ ਦੀ ਸੰਖਿਆ ਦੱਸੋ ਜਿਹੜੇ ਕੋਈ ਵੀ ਖੇਡ ਨਹੀਂ ਖੇਡਦੇ :



(a) 9 (b) 24 (c) 16 (d) 15

58. Evaluate the sale of number of books by a book seller in the year 2018 from the given data.

Year	2014	2015	2016	2017	2018
Number of Books	1150	1115	1045	940	?

a) 905 b) 870 c) 835 d) 800

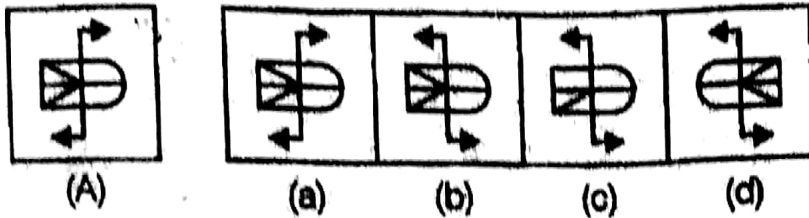
ਦਿੱਤੇ ਗਏ ਅੰਕੜਿਆਂ ਰਾਹੀਂ ਸਾਲ 2018 ਵਿਚ ਇਕ ਪੁਸਤਕ ਵਿਕ੍ਰੇਤਾ ਦੁਆਰਾ ਵੇਚੀਆਂ ਪੁਸਤਕਾਂ ਦੀ ਗਿਣਤੀ ਦਾ ਮੁਲਾਂਕਣ ਕਰੋ :

ਸਾਲ	2014	2015	2016	2017	2018
ਪੁਸਤਕਾਂ ਦੀ ਗਿਣਤੀ	1150	1115	1045	940	?

a) 905 b) 870 c) 835 d) 800

59. In the following question, choose the correct mirror image from alternatives (a), (b), (c), and (d) of the Figure (A).

ਹੇਠਲੇ ਪ੍ਰਸ਼ਨ ਵਿੱਚ ਦਿੱਤੇ ਗਏ ਵਿਕਲਪਾਂ (a), (b), (c) ਅਤੇ (d) ਵਿੱਚੋਂ ਚਿੱਤਰ (A) ਦਾ ਸਹੀ ਪ੍ਰਤੀਬਿੰਬ ਚਿੱਤਰ (Mirror image) ਚੁਣੋ :



60. Find the wrong number in the series :
125, 126, 124, 127, 123, 129

a) 126 b) 124 c) 123 d) 129

ਦਿੱਤੀ ਗਈ ਲੜੀ ਵਿੱਚੋਂ ਗਲਤ ਨੰਬਰ ਚੁਣੋ :
125, 126, 124, 127, 123, 129

a) 126 b) 124 c) 123 d) 129

61. For creating a document, you use _____ command at file menu in MS word.

a) Open b) Close c) New d) Save

ਇੱਕ ਡਾਕੂਮੈਂਟ ਬਣਾਉਣ ਲਈ ਫਾਈਲ ਮੈਨੂ ਵਿੱਚ _____ ਕਮਾਂਡ ਦਾ ਇਸਤੇਮਾਲ ਕਰਦੇ ਹੋ :

a) Open b) Close c) New d) Save

62. A directory within a directory is called a :

a) mini directory b) junior directory c) part directory d) sub directory

ਇੱਕ ਡਾਇਰੈਕਟਰੀ ਦੀ ਵਿਚਲੀ ਇੱਕ ਡਾਇਰੈਕਟਰੀ ਨੂੰ ਕਿਹਾ ਜਾਂਦਾ ਹੈ ?

a) ਮਿਨੀ ਡਾਇਰੈਕਟਰੀ b) ਜੂਨੀਅਰ ਡਾਇਰੈਕਟਰੀ c) ਪਾਰਟ ਡਾਇਰੈਕਟਰੀ d) ਸਬ ਡਾਇਰੈਕਟਰੀ

63. Deleted data remains in the disk until :

a) the data is overwritten c) a file compression utility is used
b) the disk is scanned d) all of these

ਮਿਟਾਇਆ ਗਿਆ ਡਾਟਾ ਫਾਈਲ ਡਿਸਕ ਵਿੱਚ ਉਦੋਂ ਤੱਕ ਰਹਿੰਦਾ ਹੈ, ਜਦੋਂ ਤੱਕ :

a) ਡਾਟਾ ਓਵਰ-ਰਾਈਟ ਕੀਤਾ ਜਾਂਦਾ ਹੈ c) ਇੱਕ ਫਾਈਲ ਸੰਕੁਚਨ ਯੋਗਤਾ ਦੀ ਵਰਤੋਂ ਕੀਤੀ ਜਾਂਦੀ ਹੈ
b) ਡਿਸਕ ਸਕੈਨ ਕੀਤੀ ਜਾਂਦੀ ਹੈ d) ਉਪਰੋਕਤ ਸਾਰੇ

64. Which of the following groups consist of only input devices ?

a) Mouse, Keyboard, Monitor c) Mouse, Keyboard, Plotter
b) Mouse, Keyboard, Printer d) Mouse, Keyboard, Scanner

ਹੇਠ ਦਿੱਤੇ ਸਮੂਹਾਂ ਵਿੱਚੋਂ ਕਿਹੜਾ ਸਮੂਹ ਸਿਰਫ ਇਨਪੁਟ ਡਿਵਾਇਸ ਨਾਲ ਸੰਬੰਧਿਤ ਹੈ ?

a) ਮਾਊਸ, ਕੀ-ਬੋਰਡ, ਮੋਨੀਟਰ c) ਮਾਊਸ, ਕੀ-ਬੋਰਡ, ਪਲੋਟਰ
b) ਮਾਊਸ, ਕੀ-ਬੋਰਡ, ਪ੍ਰਿੰਟਰ d) ਮਾਊਸ, ਕੀ-ਬੋਰਡ, ਸਕੈਨਰ

65. The name a user assigns to a document is called a :

a) filename b) program c) record d) data

ਇੱਕ ਉਪਭੋਗਤਾ ਰਾਹੀਂ ਕਿਸੇ ਇੱਕ ਡਾਕੂਮੈਂਟ ਨੂੰ ਦਿੱਤੇ ਜਾਣ ਵਾਲੇ ਨਾਮ ਨੂੰ ਕਹਿੰਦੇ ਹਨ :

a) ਫਾਈਲ ਨੇਮ b) ਪ੍ਰੋਗਰਾਮ c) ਰਿਕਾਰਡ d) ਡੇਟਾ

66. The function of CPU is to :

- a) provide external storage of text
- ~~b) communicate with the operator~~
- c) read, interpret and process the information & instruction
- d) provide a hard copy

ਸੀ.ਪੀ.ਯੂ. ਦਾ ਕੰਮ ਹੈ :

- a) ਟੈਕਸਟ ਦੀ ਬਾਹਰੀ ਸਟੋਰੇਜ ਮੁਹੱਈਆ ਕਰਨਾ
- b) ਓਪਰੇਟਰ ਨਾਲ ਸੰਚਾਰ ਕਰਨਾ
- c) ਜਾਣਕਾਰੀ ਅਤੇ ਹਿਦਾਇਤਾਂ ਨੂੰ ਪੜ੍ਹਨਾ, ਵਿਆਖਿਆਉਣਾ ਅਤੇ ਪ੍ਰਕਿਰਿਆ ਕਰਨਾ
- d) ਹਾਰਡ ਕਾਪੀ ਮੁਹੱਈਆ ਕਰਨਾ

67. To move to the beginning of a line of text, press the _____ key in MS word.

- a) PageUp
- b) End
- ~~c) Home~~
- d) Enter

ਟੈਕਸਟ ਦੀ ਇਕ ਲਾਈਨ ਦੀ ਸ਼ੁਰੂਆਤ ਉਤੇ ਜਾਣ ਲਈ, ਐਮ.ਐਸ. ਵਰਡ ਦੇ ਵਿਚ _____ ਕੁੰਜੀ (key) ਦਬਾਈ ਜਾਂਦੀ ਹੈ?

- a) ਪੇਜ-ਅਪ
- b) ਐਂਡ
- c) ਹੋਮ
- d) ਐਂਟਰ

68. Which of the following is NOT hardware of a computer ?

- a) monitor
- b) keyboard
- c) windows
- d) CPU

ਹੇਠ ਲਿਖਿਆਂ ਵਿਚੋਂ ਕਿਹੜਾ ਕੰਪਿਊਟਰ ਦਾ ਹਾਰਡ-ਵੇਅਰ ਨਹੀਂ ਹੈ ?

- a) ਮੋਨੀਟਰ
- b) ਕੀ-ਬੋਰਡ
- ~~c) ਵਿੰਡੋਜ਼~~
- d) ਸੀ.ਪੀ.ਯੂ.

69. A web site's main page is called its :

- a) Home page
- b) Browser Page
- c) Search Page
- d) Bookmark

ਇੱਕ ਵੈੱਬ ਸਾਈਟ ਦੇ ਮੁੱਖ ਪੇਜ ਨੂੰ ਉਸ ਦਾ ਕਿਹਾ ਜਾਂਦਾ ਹੈ :

- ~~a) ਹੋਮ ਪੇਜ~~
- b) ਬ੍ਰਾਊਜ਼ਰ ਪੇਜ
- c) ਸਰਚ ਪੇਜ
- d) ਬੁੱਕ ਮਾਰਕ

70. Which among the following is not the web browser ?

- a) Opera
- b) Netscape
- c) Mozilla
- d) Google

ਹੇਠ ਲਿਖਿਆਂ ਵਿਚੋਂ ਕਿਹੜੀ ਵੈੱਬ-ਬ੍ਰਾਊਜ਼ਰ ਨਹੀਂ ਹੈ ?

- a) ਓਪੇਰਾ
- ~~b) ਨੈੱਟ-ਸਕੇਪ~~
- c) ਮੌਜਿਲਾ
- d) ਗੂਗਲ

71. "ਮਾਲੀ ਪੌਦਿਆਂ ਦੀ ਪਨੀਰੀ ਤੇ ਪਾਣੀ ਛਿੜਕ ਰਿਹਾ ਹੈ"। ਵਾਕ ਵਿਚ ਕਿਹੜਾ ਨਾਂਵ ਨਹੀਂ ਹੈ ?

- a) ਮਾਲੀ
- b) ਪਨੀਰੀ
- c) ਪਾਣੀ
- ~~d) ਛਿੜਕ~~

72. "ਨਾਗਪੁਰ ਬਹੁਤ ਪੁਰਾਣਾ ਸ਼ਹਿਰ ਹੈ"। ਵਾਕ ਵਿਚ ਨਾਗਪੁਰ ਅਤੇ ਸ਼ਹਿਰ ਨਾਂਵ ਕਿਸ ਵਰਗ ਨਾਲ ਸੰਬੰਧਿਤ ਹਨ ?

- a) ਆਮ ਨਾਂਵ, ਵਸਤੂ ਵਾਚਕ ਨਾਂਵ
- b) ਖਾਸ ਨਾਂਵ, ਇਕੱਠ ਵਾਚਕ ਨਾਂਵ
- ~~c) ਖਾਸ ਨਾਂਵ, ਆਮ ਨਾਂਵ~~
- d) ਖਾਸ ਨਾਂਵ, ਵਸਤੂ ਵਾਚਕ ਨਾਂਵ

73. "ਟਿੱਲਾ" ਹੇਠ ਲਿਖਿਆਂ ਵਿਚੋਂ ਕਿਸ ਸ਼੍ਰੇਣੀ ਨਾਲ ਸੰਬੰਧਿਤ ਸ਼ਬਦ ਹੈ ?

- a) ਬਹੁ ਵਚਨ + ਇਸਤਰੀ ਲਿੰਗ
- b) ਬਹੁ ਵਚਨ + ਪੁਲਿੰਗ
- ~~c) ਇਕ ਵਚਨ + ਪੁਲਿੰਗ~~
- d) ਇਸਤਰੀ ਲਿੰਗ + ਇਕ ਵਚਨ

74. ਹੇਠ ਲਿਖਿਆਂ ਵਿਚੋਂ ਨਿਕਟ ਵਰਤੀ ਨਿਸ਼ਚੇ ਵਾਚਕ ਪੜਨਾਵ ਕਿਹੜਾ ਹੈ ?
a) ਆਹ b) ਉਹ c) ਉਨ੍ਹਾਂ d) ਆਹ ਅਤੇ ਉਹ ਦੋਵੇਂ
75. “ਤੁਸੀਂ ਆਪ ਇਹ ਸਾਰਾ ਕੰਮ ਸਿਰੇ ਚੜ੍ਹਾਇਆ”। ਵਾਕ ਵਿਚ “ਤੁਸੀਂ” ਸ਼ਬਦ ਕਿਸ ਨਾਲ ਸੰਬੰਧਿਤ ਹੈ :
a) ਪੁਰਖਵਾਚਕ ਪੜਨਾਵ + ਮੱਧਮ ਪੁਰਖ
b) ਪੁਰਖਵਾਚਕ ਪੜਨਾਵ + ਅਨਯ ਪੁਰਖ
c) ਸੰਬੰਧਵਾਚਕ ਪੜਨਾਵ + ਅਨਯ ਪੁਰਖ
d) ਇਨ੍ਹਾਂ ਵਿਚੋਂ ਕੋਈ ਨਹੀਂ
76. ਕਿਹੜਾ ਜੁਟ ਮੱਧਮ ਪੁਰਖ ਦਾ ਇਕਵਚਨੀ ਰੂਪ ਹੈ :
a) ਤੂੰ, ਮੈਂ b) ਅਸੀਂ, ਤੁਸੀਂ c) ਸਾਡਾ, ਅਸੀਂ d) ਤੂੰ, ਤੇਰਾ
77. ਜਿਹੜੇ ਸ਼ਬਦ ਪੜਨਾਵ ਵੀ ਹੋਣ ਅਤੇ ਕਿਸੇ ਨਾਵ ਨਾਲ ਜੁੜ ਕੇ ਵਿਸ਼ੇਸ਼ਣ ਦਾ ਕੰਮ ਵੀ ਕਰਦੇ ਹਨ, ਉਹਨਾਂ ਨੂੰ ਕਿਹੜਾ ਵਿਸ਼ੇਸ਼ਣ ਕਿਹਾ ਜਾਂਦਾ ਹੈ ?
a) ਪਰਿਮਾਣ ਵਾਚਕ b) ਸੰਖਿਆ ਵਾਚਕ c) ਗੁਣ ਵਾਚਕ d) ਪੜਨਾਵੀ
78. ਹੇਠ ਲਿਖਿਆਂ ਵਿਚੋਂ ਕਿਹੜਾ ਸ਼ਬਦ ਵਿਸ਼ੇਸ਼ਣ ਦੇ ਤੌਰ ਤੇ ਵਰਤਿਆ ਜਾਂਦਾ ਹੈ ?
a) ਖੱਚਰ b) ਖਰਚਾ c) ਖਚਰਾ d) ਖੱਟ
79. “ਕਰਮ ਸਿੰਘ ਆਪਣੀ ਦਾੜ੍ਹੀ ਨੂੰ ਕਲਫ਼ ਲਗਾ ਰਿਹਾ ਸੀ”। ਵਾਕ ਵਿਚ ਸੰਚਾਲਕ ਕਿਰਿਆ ਹੈ :
a) ਕਲਫ਼ ਲਗਾ ਰਿਹਾ ਸੀ b) ਲਗਾ ਰਿਹਾ ਸੀ c) ਰਿਹਾ d) ਰਿਹਾ ਸੀ
80. “ਮਨਪ੍ਰੀਤ ਨੇ ਕਿਤਾਬ ਦਾ ਸਾਰਾ ਮੁਖ-ਬੰਦ ਪੜ੍ਹਿਆ”। ਵਾਕ ਵਿਚ ਕਿਰਿਆ ਹੈ :
a) ਸਾਰਾ ਮੁਖ-ਬੰਦ b) ਪੜ੍ਹਿਆ c) ਮੁਖ-ਬੰਦ ਪੜ੍ਹਿਆ d) ਸਾਰਾ
81. “ਰਾਮ ਤੀਰਥ ਸ਼ਾਮ ਸੱਤ ਵਜੇ ਤੱਕ ਮੇਰੇ ਕੋਲ ਪਹੁੰਚ ਜਾਵੇਗਾ”। ਵਾਕ ਵਿਚ “ਸ਼ਾਮ ਸੱਤ ਵਜੇ” ਕੀ ਹੈ ?
a) ਕਾਲ ਵਾਚਕ ਕਿਰਿਆ ਵਿਸ਼ੇਸ਼ਣ
b) ਵਿਸ਼ੇਸ਼ਣ
c) ਨਿਰਣਾ ਵਾਚਕ ਕਿਰਿਆ ਵਿਸ਼ੇਸ਼ਣ
d) ਗਿਣਤੀ ਵਾਚਕ ਕਿਰਿਆ ਵਿਸ਼ੇਸ਼ਣ
82. “ਭਾਵੇਂ ਉਹ ਬਿਮਾਰ ਸੀ, ਫਿਰ ਵੀ ਕੰਮ ਕਰਦਾ ਰਿਹਾ ਤਾਂ ਜੋ ਘਰ ਦਾ ਰੋਟੀ-ਟੁਕ ਚਲਦਾ ਰਹੇ”। ਵਾਕ ਵਿਚ ਯੋਜਕ ਹਨ :
a) ਤਾਂ ਜੋ b) ਭਾਵੇਂ, ਤਾਂ ਜੋ c) ਭਾਵੇਂ, ਫਿਰ ਵੀ, ਤਾਂ ਜੋ d) ਤਾਂ ਜੋ
83. ਹੇਠ ਲਿਖੇ ਸ਼ਬਦ ਸਮੂਹਾਂ ਵਿਚੋਂ ਕਿਹੜਾ ਸ਼ਬਦ-ਜੋੜਾਂ ਪੱਖੋਂ ਸਹੀ ਹੈ :
a) ਜੇਹਲਮ, ਸਿਹਰਾ, ਦੁਸ਼ਮਨ
b) ਜਿਹਲਮ, ਸਿਹਰਾ, ਦੁਸ਼ਮਣ
c) ਜਿਹਲਮ, ਸੇਹਰਾ, ਦੁਸ਼ਮਨ
d) ਜੇਲਮ, ਸੇਹਰਾ, ਦੁਸ਼ਮਣ
84. ਹੇਠ ਲਿਖਿਆਂ ਵਿਚੋਂ ਮਿਸ਼ਰਿਤ ਵਾਕ ਚੁਣੋ :
a) ਉਸ ਨੂੰ ਬਰਗਰ ਨਹੀਂ ਮਿਲਿਆ ਅਤੇ ਉਸ ਨੇ ਰੋਟੀ ਵੀ ਨਹੀਂ ਖਾਧੀ।
b) ਉਸ ਨੂੰ ਸਵੇਰ ਤੋਂ ਹੀ ਭੁੱਖ ਲੱਗੀ ਹੋਈ ਸੀ।
c) ਜੇ ਭੁੱਖ ਲੱਗ ਜਾਵੀ ਤਾਂ ਉਸ ਨੇ ਰੋਟੀ ਖਾ ਲੈਣੀ ਸੀ।
d) ਭੁੱਖ ਲਗਦਿਆਂ ਹੀ ਉਸ ਨੇ ਰੋਟੀ ਖਾ ਲਈ।

85. "ਫਿੱਟ ਜਾਣਾ" ਮੁਹਾਵਰੇ ਦਾ ਅਰਥ ਹੈ :
a) ਮੋਟਾਪਾ ਆ ਜਾਣਾ b) ਹੰਕਾਰ ਹੋ ਜਾਣਾ c) ਸ਼ਰਮਿੰਦਾ ਹੋ ਜਾਣਾ d) ਮੁਸ਼ਕਿਲ ਵਿਚ ਫਸਣਾ

Directions (Q. Nos. 86 - 87): Read each sentence to find out the error in it. The error will be in one part of the sentence. The alphabet number of that part is the answer.

86. Vishnu was trying to pass through the gap on the fence when he tore his shirt.
(a) (b) (c) (d)
87. Foolishly, Meena threw some water on the electric heater when it catches fire and she got a shock.
(a) (b) (c) (d)

Directions (Q. Nos. 88 - 89): Which of the following phrases; (a), (b), (c) and (d) given below each sentence should replace the underlined phrase to make the sentence grammatically correct?

88. The driver didn't accede at the demand of the people as he was aware of the risk involved in it.
a) was not accede at the demand b) didn't accede at demanding
c) was not acceded by the demand d) didn't accede to the demand
89. Though his actions were severe criticism, he didn't lose his temper.
a) were severely criticised b) were at severely criticising
c) had severely criticised d) had severe criticised

Directions (Q. Nos. 90 - 91): Each of the following sentences has a blank space and four choices (a), (b), (c) & (d) given after the sentence. Select the choice you consider most appropriate for the blank space.

90. Do you know _____.
a) where she comes from b) where does she come from
c) where from she comes d) from where she come
91. The family gave father a gold watch on the _____ of his fiftieth birthday.
a) time b) fall c) occasion d) celebration

Directions (Q. No. 92-93): In the following questions four words are given, out of which only one word is correctly spelt. Find the correctly spelt word.

92. a) massacar b) masacre c) messacre d) massacre
93. a) exempleary b) embarass c) envious d) excellence

Directions (Q. Nos. 94 - 95): Select the pair of words, identical to the pair given in question.

94. GENUINE : SIMULATED :: UNAFFECTED : ?
a) Elevated b) Bombastic c) Dynamic d) Destructive
95. ACTOR : STAGE :: ? : ROSTRUM
a) Pilot b) Acrobat c) Soldier d) Orator

Directions (Q. Nos. 96 - 97): For each underlined part in the sentence, four words / phrases are listed below. Choose the word nearest in meaning to the underlined part in the sentence.

96. In spite of the best efforts the officer could not redeem his prestige.
a) recover b) raise c) extend d) fulfil
97. There is abundant supply of water for the crops.
a) considerable b) plentiful c) adequate d) sufficient

98. On the spur of the moment :

- a) At once or without any kind of deliberation
b) In accordance with the prevailing style
c) Open to blame
d) On the side of something undesirable

99. To snap one's finger at :

- a) To maintain friendship
b) To give the challenge
c) To continue doing anything
d) To stay away from something

Direction (Q. No. 100): Choose the word which is opposite in meaning as the given word.

100. Confess

- a) grant b) conceal c) concede d) acknowledge

Space for Rough Work

[illegible]