

WBSET - PAPER -1 Held on 14 Dec 2025



00

Y-3
GENERAL

Read the following passage and answer Question Nos. 1 to 5:

It must be stressed that there are numerous cases in which having more information has indeed enabled humans to understand the world better and to make wiser use of their power. Consider, for example, the dramatic reduction in child mortality.

Johann Wolfgang von Goethe went on to have five children of his own, of whom all but the eldest son—August—died within two weeks of their birth. In all probability the cause was incompatibility between the blood groups of Goethe and his wife, Christiana, which after the first successful pregnancy led the mother to develop antibodies to the fetal blood. This condition, known as rhesus disease, is now a days treated so effectively that the mortality rate is less than 2 percent, but in the 1790s it had an average mortality rate of 50 percent and for Goethe's four younger children it was a death sentence.

Altogether in Goethe's family—a well-to-do German family in the late eighteen—century the child survival rate was an abysmal 25 percent. Only three out of twelve children reached adulthood. This horrendous statistic was not exceptional. Around the time Goethe wrote "The Sorcerer's Apprentice" in 1797, it is estimated that only about 50 percent of German children reached age fifteen, and the same was probably true in most other parts of the world. By 2020, 95.6 percent of children worldwide lived beyond their fifteenth birthday, and in Germany that figure was 99.5 percent. This momentous achievement would not have been possible without collecting, analyzing, and sharing massive amounts of medical data about things like blood groups. In this case, then, the naive view of information proved to be correct.



নীচের অনুচ্ছেদটি পড়ুন এবং 1 থেকে 5 সংখ্যক প্রশ্নের উত্তর দিন :


এ কথা জোর দিয়ে বলা দরকার যে, অনেক ক্ষেত্রেই বেশি তথ্য থাকার ফলে মানুষ বিশ্বকে আরও ভালোভাবে বুঝতে পেরেছে এবং বিজ্ঞতার সঙ্গে তার ক্ষমতা ব্যবহার করতে পেরেছে। উদাহরণস্বরূপ বিবেচ্য, শিশুমৃত্যুর হার নাটকীয়ভাবে হ্রাস পেয়েছে।

জোহান উলফগ্যাং ফন গ্যেটের পাঁচটি সন্তান ছিল। তাদের মধ্যে প্রথম সন্তান অগস্ট ছাড়া বাকি সকলেই জন্মের দু'সপ্তাহের মধ্যে মারা যায়। সম্ভবত, গ্যেটে এবং তাঁর স্ত্রী ক্রিস্টিয়ানার রক্তের শ্রেণির মধ্যে গরমিলের কারণেই এই ঘটনা ঘটে। প্রথমবার সফলভাবে অন্তঃসত্ত্বা হওয়ার পর মায়ের জগ্ন-রক্তের মধ্যে নাশকতামূলক জীবাণু (antibody) তৈরি হয়। এই পরিস্থিতিতে বলা হয় রিসাস রোগ (Rhesus disease)। বর্তমানে সফলভাবে এর চিকিৎসা করা যায় এবং এই রোগে মৃত্যুর হার 2 শতাংশেরও কম। কিন্তু 1790-এর দশকে এই রোগে গড় মৃত্যুর হার ছিল 50 শতাংশ। গ্যেটের কনিষ্ঠ চার সন্তানের জন্য এই রোগ ছিল মৃত্যুদণ্ডস্বরূপ।

সবমিলিয়ে, গ্যেটের পরিবারের—যা অষ্টাদশ শতাব্দীর শেষভাগের একটি সম্পন্ন পরিবার ছিল—শিশুদের বেঁচে থাকার হার ছিল ভয়াবহভাবে কম। 25 শতাংশ মাত্র। 12 জন শিশুর মধ্যে মাত্র 3 জন প্রাপ্তবয়স্ক হতে পেরেছিল। এই ভয়াবহ পরিসংখ্যান কোনো ব্যতিক্রম নয়। 1797 সালে গ্যেটে যখন "দ্য সর্সারার'স্ অ্যাপ্রেন্টিস" রচনা করেন, মোটামুটিভাবে সেই সময়ে মাত্র 50 শতাংশ জার্মান শিশুরা 15 বছর বয়স পর্যন্ত বাঁচত। পৃথিবীর অন্যান্য জায়গাতেও সম্ভবত পরিস্থিতি একইরকম ছিল। 2020 সালের পরিসংখ্যান অনুযায়ী, সমগ্র বিশ্বের শিশুদের 95.6 শতাংশ 15 বছর বয়স পর্যন্ত বাঁচে। আর জার্মানিতে এই পরিসংখ্যান হল 99.5 শতাংশ। চিকিৎসাশাস্ত্র সম্পর্কিত (যেমন, রক্তের শ্রেণি সংক্রান্ত) বিপুল পরিমাণ তথ্য সংগ্রহ, বিশ্লেষণ এবং বিনিময়ের ফলে এই বিশাল সাফল্যপ্রাপ্তি সম্ভব হয়েছে। এক্ষেত্রে তথ্য সম্পর্কিত সরল যে ধারণাটির কথা এই লেখার শুরুতে বলা হয়েছে, তা সত্য বলে প্রমাণিত হয়।

[Please Turn Over]

00



Y-4

However, the naive view of information sees only part of the picture, and the history of the modern age was not just about reducing child mortality. In recent generations humanity has experienced the greatest increase ever in both the amount and the speed of our information production. Every smartphone contains more information than the ancient Library of Alexandria and enables its owner to instantaneously connect to billions of other people throughout the world. Yet with all this information circulating at breathtaking speeds, humanity is closer than ever to annihilating itself.

1. The author, in the passage, considered information as:

- (A) Power
(B) Wisdom
(C) Enabling factor
(D) Mortality



2. Currently, the effective treatment of children afflicted with rhesus disease, has reduced the mortality rate to:

- (A) 50%
(B) 25%
(C) 95.6%
(D) less than 2%



3. The dramatic and positive achievement of medical treatment was made possible by:

- (A) Collecting and treating patients
(B) Analysing and sharing of data
(C) Analysing and sharing of medical data
(D) Collecting, analysing, and sharing of medical data



তবে, তথ্য সম্পর্কিত সরল এই ধারণা থেকে সম্পূর্ণ চিত্রটি বোঝা যায় না। আধুনিক যুগের ইতিহাস শুধুমাত্র শিশুমৃত্যু হ্রাসের কাহিনি বলে না। সাম্প্রতিককালে, মানবসভ্যতা অত্যন্ত দ্রুতহারে এবং বিপুল পরিমাণে তথ্য উৎপাদন করতে শুরু করেছে। প্রত্যেকটি স্মার্টফোনের মধ্যে প্রাচীনকালের আলেকজান্দ্রিয়ার গ্রন্থাগারের চেয়েও বেশি তথ্য ধরা রয়েছে। একটি ফোনের মালিক মুহূর্তের মধ্যে বিশ্বের শতকোটি মানুষের সঙ্গে যোগাযোগ করতে পারেন। অথচ, এত তথ্যের এই বিদ্যুৎগতি প্রবাহের মধ্যেও, মানবজাতি ধ্বংসের অত্যন্ত কাছাকাছি চলে এসেছে।

1. উদ্ধৃত অনুচ্ছেদের লেখক তথ্যকে যা বলে বিবেচনা করেছেন, তা হল :

- (A) ক্ষমতা
(B) বিজ্ঞতা
(C) কাষসিদ্ধির উপায়
(D) মৃত্যু



2. বর্তমানে, রিসাস রোগাক্রান্ত শিশুদের মৃত্যুর চিকিৎসার ফলে কমে দাঁড়িয়েছে :

- (A) 50%
(B) 25%
(C) 95.6%
(D) 2%-এর কম



3. রোগ নিরাময়ের ক্ষেত্রে নাটকীয় সাফল্যলাভের মূল কারণ :

- (A) রোগীদের একত্রীকরণ এবং চিকিৎসা করা
(B) তথ্য বিশ্লেষণ এবং বিনিময়
(C) চিকিৎসাশাস্ত্র সম্পর্কিত ও তথ্য বিশ্লেষণ এবং বিনিময়
(D) চিকিৎসাশাস্ত্র সম্পর্কিত তথ্য সংগ্রহ, বিশ্লেষণ এবং বিনিময়

Y-5

00

4. What is the conclusion made by the author about the future of human race?

- (A) Wonderful achievement
(B) Point of destroying humanity itself
(C) Revolution of information age
(D) Carry libraries with them

5. The rhesus disease originates in the blood of:

- (A) Fetus
(B) Mother
(C) Father
(D) First born

6. For designing a research questionnaire, arrange the following steps in the correct sequence:

- (i) Pre-test the questionnaire
(ii) Define the objectives of the research
(iii) Draft the question
(iv) Identify the target respondents
(v) Finalize the questionnaire

Choose the correct answer from the options given below:

- (A) (ii), (iv), (iii), (i), (v)
(B) (iv), (ii), (iii), (i), (v)
(C) (ii), (iii), (iv), (i), (v)
(D) (ii), (iv), (i), (iii), (v)

7. In response to which of the following environmental disasters, the Environmental Protection Act, 1986 came into existence?

- (A) Indian Vulture Crises
(B) Bhopal Disaster
(C) Pasarlupudi Blowout
(D) Assam Oil Spill

4. মানবজাতির ভবিষ্যৎ সম্পর্কে লেখক কী সিদ্ধান্তে পৌঁছেছেন?

- (A) বিস্ময়কর কৃতিত্ব
(B) মানবসভ্যতা ধ্বংসের মুখোমুখি
(C) তথ্য যুগের বিপ্লব
(D) মানুষ নিজের সঙ্গে প্রহাণার বহন করতে পারে

5. রিসাস রোগ যার রক্ত থেকে শুরু হয় :

- (A) জগ
(B) মা
(C) বাবা
(D) প্রথম সন্তান

6. গবেষণা-প্রশ্নাবলি নির্মাণের ক্ষেত্রে নিচের পর্যায়গুলি ক্রমানুসারে সাজান :

- (i) গবেষণা-প্রশ্নাবলি পূর্ব-নিরীক্ষা করা
(ii) গবেষণার উদ্দেশ্য ব্যক্ত করা
(iii) প্রশ্নের খসড়া নির্মাণ করা
(iv) লক্ষ্য-উত্তরদাতাদের (target respondents) শনাক্তকরণ করা
(v) গবেষণা-প্রশ্নাবলির চূড়ান্ত রূপ প্রদান করা

নিম্নলিখিত বিকল্পগুলি থেকে সর্বাপেক্ষা উপযুক্ত উত্তর চিহ্নিত করুন :

- (A) (ii), (iv), (iii), (i), (v)
(B) (iv), (ii), (iii), (i), (v)
(C) (ii), (iii), (iv), (i), (v)
(D) (ii), (iv), (i), (iii), (v)

7. কোন্ ঘটনার পরিপ্রেক্ষিতে পরিবেশ সুরক্ষা আইন, 1986 (Environmental Protection Act, 1986) প্রণীত হয়েছিল?

- (A) ভারতীয় শকুন সংকট
(B) ভোপাল দুর্ঘটনা
(C) পাসারলাপুড়ি অগ্নিকাণ্ড
(D) অসম তেল দুর্ঘটনা

[Please Turn Over]

00



Y-6

8. What is a key benefit of effective data governance?

- (A) Increased data duplication
(B) Improved data silos
(C) Enhanced data quality and reliability
(D) Reduced need for data documentation



9. What are the three R's that are used to save the environment?

- (A) Reserve, Reuse, Reduce
(B) Reduce, Reuse, Recycle
(C) Reuse, Reserve, Reduce
(D) Reserve, Reduce, Reuse



10. The keywords of 'Justice', 'Equality', 'Liberty' and 'Fraternity' in the Preamble of Indian Constitution were taken from the ideals of:

- (A) Italian Constitution
(B) French Constitution
(C) British Constitution
(D) American Constitution



11. Transactional e-mail communication includes:

- (i) Order Confirmation
(ii) Password Reset
(iii) Product Launch
(iv) Account Registration



Choose the most appropriate answer from the following options:

- (A) (i), (ii) and (iii)
(B) (i), (ii) and (iv)
(C) (ii), (iii) and (iv)
(D) (i), (iii) and (iv)



8. যথাযথভাবে ডেটা পরিচালনার (effective data governance) মূল সুবিধা কী?

- (A) ডেটার প্রতিলিপি বৃদ্ধি পাওয়া
(B) উন্নতভাবে ডেটা মজুতকরণ
(C) উন্নত গুণমানের এবং নির্ভরযোগ্য ডেটা
(D) ডেটা নথিভুক্তিকরণের প্রয়োজনীয়তা হ্রাস



9. পরিবেশ সংরক্ষণের সঙ্গে সম্পর্কিত তিনটি R কী কী?

- (A) Reserve, Reuse, Reduce
(B) Reduce, Reuse, Recycle
(C) Reuse, Reserve, Reduce
(D) Reserve, Reduce, Reuse



10. ভারতীয় সংবিধানের প্রস্তাবনা অংশে উল্লিখিত 'ন্যায়বিচার', 'সাম্য', 'স্বাধীনতা' এবং 'সৌভ্রাতৃত্ব' শব্দগুলি কোন্ দেশের সংবিধানের আদর্শ থেকে গৃহীত :

- (A) ইতালীয় সংবিধান
(B) ফরাসি সংবিধান
(C) ব্রিটিশ সংবিধান
(D) আমেরিকান সংবিধান



11. ট্রান্সাকশনাল ইমেল সংযোগ বলতে যে ধারণাগুলি বোঝায় তা হল :




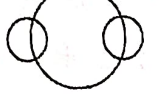
- (i) অর্ডার নিশ্চিতকরণ (Order Confirmation)
(ii) পাসওয়ার্ড পুনর্গঠন (Password Reset)
(iii) পণ্য উন্মোচন (Product Launch)
(iv) অ্যাকাউন্ট নিবন্ধীকরণ (Account Registration)

নীচে দেওয়া বিকল্পগুলির মধ্য থেকে সর্বাপেক্ষা যথাযথ উত্তরটি বেছে নিন :

- (A) (i), (ii) এবং (iii)
(B) (i), (ii) এবং (iv)
(C) (ii), (iii) এবং (iv)
(D) (i), (iii) এবং (iv)




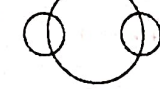


12. Which of the following diagrams denotes the best relationship among Fathers, Teachers and Men?

- (A) 
- (B) 
- (C) 
- (D) 



12. নীচের কোন রোখাচিত্রটি পিতা, শিক্ষক এবং পুরুষদের মধ্যে সম্পর্ক সর্বাপেক্ষা যথাযথভাবে প্রকাশ করে?

- (A) 
- (B) 
- (C) 
- (D) 



13. 'Community Engagement and Services' is primarily:

- (A) A theory-based course
- (B) A discipline-specific area
- (C) A specialized field of study
- (D) An activity-oriented course



13. 'কমিউনিটি এনগেজমেন্ট অ্যান্ড সার্ভিসেস' বলতে প্রধানত বোঝায় :

- (A) একটি তত্ত্বভিত্তিক কোর্স
- (B) একটি বিদ্যায়তনিক বিষয়নির্দিষ্ট ক্ষেত্র
- (C) বিদ্যাচর্চার একটি বিশেষ ক্ষেত্র
- (D) একটি ক্রিয়াকলাপমূলক কোর্স



14. Seats for Mathematics, Physics and Biology in a school are in the ratio 5 : 7 : 8. There is a proposal to increase these seats by 40%, 50% and 75% respectively. What will be the ratio after seats are increased?

- (A) 2 : 3 : 4
- (B) 6 : 7 : 8
- (C) 6 : 8 : 9
- (D) 5 : 7 : 9



14. একটি বিদ্যালয়ে গণিত, পদার্থবিদ্যা এবং জীববিদ্যার আসন সংখ্যার অনুপাত 5 : 7 : 8। এই আসনগুলি যথাক্রমে 40%, 50% এবং 75% বৃদ্ধির প্রস্তাব গৃহীত হয়েছে। আসনসংখ্যা বৃদ্ধির পর তিনটি বিষয়ের নতুন অনুপাত কত হবে?

- (A) 2 : 3 : 4
- (B) 6 : 7 : 8
- (C) 6 : 8 : 9
- (D) 5 : 7 : 9



00

15. Which of the following are Millennium Development Goals?

- (i) Eradicating extreme poverty and hunger
- (ii) Addressing climate change
- (iii) Improving maternal health
- (iv) Promoting gender equity and women empowerment

Choose the correct answer from the options given below:

- (A) (i), (ii), (iii) and (iv) only
- (B) (i), (iii) and (iv) only
- (C) (i) and (ii) only
- (D) (i), (ii) and (iv) only

16. Given below are two statements: One is labelled as Assertion (A) and the other as Reason (R).

Assertion (A) : Climate change is resulting in increase of social tension.

Reason (R) : The frequency and intensity of extreme weather impact livelihood and food security.

In the light of the above statements, choose the most appropriate answer from the following options:

- (A) Both (A) and (R) are true and (R) is the correct explanation of (A)
- (B) Both (A) and (R) are true, but (R) is not the correct explanation of (A)
- (C) (A) is true, but (R) is false
- (D) (A) is false, but (R) is true

15. নীচের কোনগুলি 'মিলেনিয়াম ডেভেলপমেন্ট গোল'-এর অন্তর্গত?

- (i) তীব্র দারিদ্র্য এবং ক্ষুধা দূরীকরণ
- (ii) জলবায়ু পরিবর্তন প্রতিরোধ করা
- (iii) মাতৃত্বকালীন স্বাস্থ্যের উন্নয়ন
- (iv) লিঙ্গসাম্য এবং নারী ক্ষমতায়নের প্রসার

নিম্নলিখিত বিকল্পগুলি থেকে সঠিক উত্তরটি বেছে নিন :

- (A) শুধুমাত্র (i), (ii), (iii) এবং (iv)
- (B) শুধুমাত্র (i), (iii) এবং (iv)
- (C) শুধুমাত্র (i) এবং (ii)
- (D) শুধুমাত্র (i), (ii) এবং (iv)

16. নীচের দুটি বিবৃতির (statements) একটিকে মন্তব্য (Assertion) (A) অন্যটিকে যুক্তি (Reason) (R) বলা হয়েছে।

মন্তব্য (A) : জলবায়ু পরিবর্তনের ফলে সামাজিক উত্তেজনা (social tension) বৃদ্ধি পাচ্ছে।

যুক্তি (R) : প্রতিকূল আবহাওয়ার প্রাবল্য এবং পুনরাবৃত্তি জনজীবন এবং খাদ্যসুরক্ষার ওপর প্রভাব ফেলে।

নিম্নলিখিত বিকল্পগুলি থেকে সর্বাপেক্ষা উপযুক্ত উত্তর চিহ্নিত করুন :

- (A) (A) ও (R) উভয়ই সত্য। (R) যথাযথভাবে (A)-কে ব্যাখ্যা করে
- (B) (A) ও (R) উভয়ই সত্য। কিন্তু, (R), (A)-র যথাযথ ব্যাখ্যা নয়
- (C) (A) সত্য কিন্তু (R) অসত্য
- (D) (A) অসত্য কিন্তু (R) সত্য

Y-9

00

17. General Data Protection Regulation is an example of a regulation primarily focused on:

- (A) Data Storage Optimization
(B) Data Privacy and Protection
(C) Data Visualization
(D) Data Hardware Specifications



18. A 'Jumpline' in a newspaper:

- (A) Directs the readers to other pages for continuation
(B) Cuts the news item abruptly
(C) Shortens news with a line
(D) Concludes the news



19. What is the primary function of a Firewall in Computer Network?

- (A) To encrypt data during transmission
(B) To monitor and filter incoming and outgoing network traffic
(C) To detect and remove viruses from a system
(D) To store backup and copies of important data



20. Choose the correct answer to compute the number series: 1, 1, 4, 9, 25, 64, ___?

- (A) 121
(B) 144
(C) 169
(D) 196



17. একটি বিধির উদাহরণস্বরূপ সাধারণ ডেটা সুরক্ষা বিধি প্রধানত গুরুত্ব দেয় :

- (A) সর্বাধিক অনুকূলভাবে ডেটা সংরক্ষণকে
(B) ডেটার গোপনীয়তা এবং সুরক্ষাকে
(C) ডেটার দৃশ্যায়নকে
(D) ডেটা হার্ডওয়্যারের বৈশিষ্ট্যসমূহকে



18. সংবাদপত্রে 'জাম্পলাইন'-এর কাজ :

- (A) সংবাদের বাকি অংশটুকু অন্য যে-পৃষ্ঠায় মুদ্রিত রয়েছে, সেদিকে পাঠককে নির্দেশ করে
(B) সংবাদটি সহসা সমাপ্ত করে দেয়
(C) লাইন টেনে সংবাদ সংক্ষিপ্ত করে দেয়
(D) সংবাদটির পরিসমাপ্তি ঘটায়



19. কম্পিউটার নেটওয়ার্কে ফায়ারওয়াল প্রধানত কী কাজ করে থাকে?

- (A) গোপনীয়তা রক্ষা করে ডেটা সংরক্ষণ করা
(B) অন্তর্মুখী এবং বহির্মুখী নেটওয়ার্ক ট্রাফিক নিয়ন্ত্রণ ও ফিল্টার করা
(C) সিস্টেম থেকে ভাইরাস শনাক্ত করে দূরীভূত করা
(D) গুরুত্বপূর্ণ ডেটার প্রতিলিপি সংরক্ষণ

20. নীচের সংখ্যাগুলির ক্রমপর্যায়ে সর্বশেষ সংখ্যাটি বেছে নিন : 1, 1, 4, 9, 25, 64, ___?

- (A) 121
(B) 144
(C) 169
(D) 196



[Please Turn Over

00



Y-10

21. "Every cat I have ever met has four legs. Therefore, all cats have four legs." This is an example of:

- (A) Deductive Reasoning
- (B) Abductive Reasoning
- (C) Inductive Reasoning
- (D) Spatial Reasoning



22. Which technology is commonly used ensuring secured and transparent delivery of public services?

- (A) Virtual Reality
- (B) Blockchain
- (C) 3D Printing
- (D) Voice over IP



23. Conservation of biodiversity outside the natural habitat is known as:

- (A) In-situ
- (B) Ex-situ
- (C) In-vivo
- (D) Ex-vivo



21. "আমি যত বেড়াল দেখেছি, প্রত্যেকেরই চারটি করে পা ছিল। সুতরাং, বেড়াল মাত্রেরই চারটি পা থাকে।" এটি যার উদাহরণ :

- (A) অবরোহী যুক্তি (Deductive Reasoning)
- (B) অপসারক যুক্তি (Abductive Reasoning)
- (C) আরোহী যুক্তি (Inductive Reasoning)
- (D) স্থানিক যুক্তি (Spatial Reasoning)



22. স্বচ্ছ এবং নিরাপদভাবে জন-পরিসেবা দেওয়ার ক্ষেত্রে কোন প্রযুক্তি কাজে লাগে?

- (A) ভার্চুয়াল রিয়্যালিটি
- (B) ব্লকচেন
- (C) 3D প্রিন্টিং
- (D) ভয়েস ওভার IP



23. স্বাভাবিক বাসভূমির (natural habitat) বাইরে জীববৈচিত্র্য সংরক্ষণকে বলা হয় :

- (A) ইন-সিটু (In-situ)
- (B) এক্স-সিটু (Ex-situ)
- (C) ইন-ভিভো (In-vivo)
- (D) এক্স-ভিভো (Ex-vivo)



Y-11

00

24. Match List-I containing key research terms with List-II containing the description of the terms:

List-I

List-II

- | | |
|-------------------------|---|
| (a) Research Problem | (i) Devices used for data gathering |
| (b) Research Hypothesis | (ii) A subset drawn from a defined set of Universe |
| (c) Sample of a study | (iii) A tentative answer to a research question |
| (d) Research tools | (iv) The research question which has to be answered |

Choose the most appropriate answer from the following options:

- | | | | |
|-----------|-------|-------|------|
| (a) | (b) | (c) | (d) |
| (A) (iv) | (iii) | (ii) | (i) |
| (B) (iii) | (ii) | (i) | (iv) |
| (C) (i) | (ii) | (iii) | (iv) |
| (D) (iii) | (iv) | (i) | (ii) |

24. তালিকা-I-এর গবেষণা সম্পর্কিত পরিভাষার সঙ্গে তালিকা-II-এর ব্যাখ্যা মেলান :

তালিকা-I

তালিকা-II

- | | |
|-----------------------|---|
| (a) গবেষণা প্রশ্ন | (i) যে-সব যন্ত্রের সাহায্যে তথ্য সংগ্রহ করা হয় |
| (b) গবেষণা হাইপোথিসিস | (ii) বিস্তৃত ক্ষেত্র থেকে গবেষণার প্রয়োজনে বেছে নেওয়া একটি সীমাবদ্ধ ক্ষেত্র |
| (c) গবেষণার নমুনা | (iii) গবেষণা প্রশ্নের আনুমানিক উত্তর |
| (d) গবেষণার যন্ত্রাদি | (iv) গবেষণা সম্পর্কিত যে প্রশ্নের উত্তর দেওয়া হবে |

নিম্নলিখিত বিকল্পগুলি থেকে সর্বাপেক্ষা উপযুক্ত উত্তর চিহ্নিত করুন :

- | | | | |
|-----------|-------|-------|------|
| (a) | (b) | (c) | (d) |
| (A) (iv) | (iii) | (ii) | (i) |
| (B) (iii) | (ii) | (i) | (iv) |
| (C) (i) | (ii) | (iii) | (iv) |
| (D) (iii) | (iv) | (i) | (ii) |

25. The original stories for the book 'Heart Lamp', the International Booker Prize Winner for 2025, were written in:

- (A) Urdu
(B) Arabic
(C) Tamil
(D) Kannada

25. 2025 সালে আন্তর্জাতিক বুক অ্যাওয়ার্ড প্রাপ্ত 'হার্ট ল্যাম্প' বইটির গল্পগুলি যে মূল ভাষায় লেখা হয়েছিল, তা হল :

- (A) উর্দু
(B) আরবি
(C) তামিল
(D) কন্নড়

00



Y-12

26. Match List-I containing various digital initiatives with List-II containing the explanation:

List-I (Digital Initiative)	List-II (Explanation)
(a) Shodhganga	(i) A digital repository of academic awards
(b) SWAYAM	(ii) Platform offering online courses
(c) NAD	(iii) A digital repository of theses and dissertations
(d) DIKSHA	(iv) A platform for Teachers Training and educational resources

Choose the most appropriate answer from the following options:

	(a)	(b)	(c)	(d)
(A)	(iv)	(ii)	(i)	(iii)
(B)	(iii)	(ii)	(i)	(iv)
(C)	(iii)	(ii)	(iv)	(i)
(D)	(iii)	(iv)	(ii)	(i)

26. তালিকা-I-এ থাকা ডিজিটাল উদ্যোগের সঙ্গে তালিকা-II-এ থাকা তাদের ব্যাখ্যা মেলান :

তালিকা-I (ডিজিটাল উদ্যোগ)	তালিকা-II (ব্যাখ্যা)
(a) Shodhganga	(i) বিদ্যায়তনিক পুরস্কারের ডিজিটাল ভাণ্ডার
(b) SWAYAM	(ii) অনলাইন কোর্স প্রদানকারী প্ল্যাটফর্ম
(c) NAD	(iii) গবেষণা সন্দর্ভ এবং অভিসন্দর্ভের ডিজিটাল ভাণ্ডার
(d) DIKSHA	(iv) শিক্ষক-শিক্ষণ এবং শিক্ষাগত উপাদানের প্ল্যাটফর্ম

নিম্নলিখিত বিকল্পগুলি থেকে সর্বাপেক্ষা উপযুক্ত উত্তর চিহ্নিত করুন :

	(a)	(b)	(c)	(d)
(A)	(iv)	(ii)	(i)	(iii)
(B)	(iii)	(ii)	(i)	(iv)
(C)	(iii)	(ii)	(iv)	(i)
(D)	(iii)	(iv)	(ii)	(i)



Adda247

Y-13



00

27. Match List-I with List-II:

List-I (Sangya)	List-II (Byakhya)
(a) Andhavishwas	(i) Where there is smoke, there is always fire
(b) Vyapti	(ii) Negative impacts on individuals and communities
(c) Upamana	(iii) The authority of the Vedas
(d) Purva Mimamsa	(iv) Knowledge imparted by means of analogy

Choose the correct answer from the following options:

(a)	(b)	(c)	(d)
(A) (iii)	(iv)	(i)	(ii)
(B) (ii)	(i)	(iv)	(iii)
(C) (ii)	(iii)	(iv)	(i)
(D) (iii)	(i)	(ii)	(iv)

27. তালিকা-I এবং তালিকা-II-এর মধ্যে সামঞ্জস্য বিধান করুন :

তালিকা-I (সংজ্ঞা)	তালিকা-II (ব্যাখ্যা)
(a) অন্ধবিশ্বাস	(i) ধোঁয়া থাকলে আগুন অবশ্যই থাকবে
(b) ব্যাপ্তি	(ii) ব্যক্তি ও সমাজের ওপর নঞর্থক প্রভাব
(c) উপমান	(iii) বেদের প্রামাণিকতা
(d) পূর্ব মীমাংসা	(iv) তুলনার সাহায্যে জ্ঞান প্রদান

নিম্নলিখিত বিকল্পগুলি থেকে সর্বাপেক্ষা উপযুক্ত উত্তর চিহ্নিত করুন :

(a)	(b)	(c)	(d)
(A) (iii)	(iv)	(i)	(ii)
(B) (ii)	(i)	(iv)	(iii)
(C) (ii)	(iii)	(iv)	(i)
(D) (iii)	(i)	(ii)	(iv)

28. Given below are two statements: One is labelled as *Assertion* (A) and the other as *Reason* (R).

Assertion (A) : The frequency of landslides has increased in the Himalayas.

Reason (R) : There has been largescale mining in the Himalayas in recent times.

In the light of the above statements, choose the most appropriate answer from the following options:

- (A) Both (A) and (R) are true and (R) is the correct explanation of (A)
- (B) (A) is true, but (R) is false
- (C) Both (A) and (R) are true, but (R) is not the correct explanation of (A)
- (D) (A) is false, but (R) is true

28. নীচের দুটো বিবৃতির (statements) একটিকে মন্তব্য (*Assertion*) (A) অন্যটিকে যুক্তি (*Reason*) (R) বলা হয়েছে।

মন্তব্য (A) : হিমালয় পর্বতশ্রেণিতে ভূমিধসের ঘটনা বৃদ্ধি পেয়েছে।

যুক্তি (R) : সাম্প্রতিককালে হিমালয় পর্বতশ্রেণিতে বৃহৎ আকারে খননকার্যের ঘটনা ঘটেছে।

নিম্নলিখিত বিকল্পগুলি থেকে সর্বাপেক্ষা উপযুক্ত উত্তর চিহ্নিত করুন :

- (A) (A) ও (R) উভয়ই সত্য। (R), (A)-কে যথাযথভাবে ব্যাখ্যা করে
- (B) (A) সত্য কিন্তু (R) অসত্য
- (C) (A) ও (R) উভয়ই সত্য। কিন্তু, (R), (A)-র যথাযথ ব্যাখ্যা নয়
- (D) (A) অসত্য কিন্তু (R) সত্য

00



Y-14

29. Which of the following ensures *engaging* and *supportive* learning environment?

- (A) Institutional Development Plan
- (B) Guidance Programmes
- (C) Faculty Autonomy
- (D) Learning as a Task



30. Which of the following actions maintains privacy and security during a Video Conferencing?

- (A) Sharing the meeting link publicly on social media
- (B) Allowing any one to join without a password
- (C) Using a waiting room feature for access control
- (D) Keeping a webcam covered with tape



31. Given below are two statements: One is labelled as *Assertion* (A) and the other as *Reason* (R).

Assertion (A) : The annual report of 'Reporters Without Borders-2025' ranked India's Press Freedom at 151 out of 180 countries.

Reason (R) : The readers now follow the social media more than any other media.

In the light of the above statements, choose the most appropriate answer from the following options:

- (A) Both (A) and (R) are correct and (R) is the correct explanation of (A)
- (B) Both (A) and (R) are wrong
- (C) (A) is correct, but (R) is wrong
- (D) (A) is correct, but (R) is not the correct explanation of (A)

29. নীচের কোনটি উৎসাহব্যঞ্জক এবং সহায়তাপূর্ণ শিক্ষার পরিবেশ সুনিশ্চিত করে?

- (A) প্রতিষ্ঠান উন্নয়ন পরিকল্পনা (Institutional Development Plan)
- (B) সহায়তাকারী অনুষ্ঠান (Guidance Programmes)
- (C) শিক্ষকদের স্বতন্ত্রতা (Faculty Autonomy)
- (D) শিক্ষাকে কাজ বলে বিবেচনা করা (Learning as a Task)

30. নীচের কোন বিষয়টি ভিডিও কনফারেন্সিং-এর সময় ব্যক্তিগত তথ্যের নিরাপত্তা এবং সুরক্ষা বজায় রাখতে সাহায্য করে?

- (A) সামাজিক মাধ্যমে প্রকাশ্যে মিটিং-এর লিংক শেয়ার করা
- (B) পাসওয়ার্ড ছাড়াই যে-কোনো ব্যক্তিকে মিটিং-এ যোগদানের অনুমতি দেওয়া
- (C) নিয়ন্ত্রণ বজায় রাখার জন্য 'ওয়েটিং রুম' নামক বৈশিষ্ট্যটি ব্যবহার করা
- (D) ওয়েবক্যাম টেপ দিয়ে ঢেকে রাখা

31. নীচের দুটি বিবৃতির (statements) একটিকে মন্তব্য (*Assertion*) (A) অন্যটিকে যুক্তি (*Reason*) (R) বলা হয়েছে।

মন্তব্য (A) : রিপোর্টার্স উইদাউট বর্ডার্স-2025'-এর বার্ষিক প্রতিবেদন অনুসারে সংবাদমাধ্যমের স্বাধীনতায় ভারত 180টি দেশের মধ্যে 151তম স্থান অধিকার করেছে।




যুক্তি (R) : বর্তমানকালে পাঠকরা অন্য কোনো মাধ্যমের থেকে সামাজিক মাধ্যমই বেশি অনুসরণ করে থাকেন।

নিম্নলিখিত বিকল্পগুলি থেকে সর্বাপেক্ষা উপযুক্ত উত্তর চিহ্নিত করুন :

- (A) (A) ও (R) উভয়ই সত্য। (R), (A)-কে যথাযথভাবে ব্যাখ্যা করে
- (B) (A) ও (R) উভয়ই অসত্য
- (C) (A) সত্য, কিন্তু (R) অসত্য
- (D) (A) সত্য, কিন্তু (R), (A)-র যথাযথ ব্যাখ্যা নয়



Y-15



00

32. The Nuremberg Code was established in response to:

- (A) The need for international research collaboration
- (B) Control the harmful effect of internet and social media
- (C) Ethical violations in research during World War-II
- (D) Prevent plagiarism in research work



32. ন্যুরেমবার্গ কোড যে-প্রত্যুত্তরে প্রণীত হয়েছিল :

- (A) আন্তর্জাতিক স্তরে গবেষকদের মতবিনিময়ের প্রয়োজনে
- (B) ইন্টারনেট এবং সামাজিক মাধ্যমের ক্ষতিকর প্রভাব প্রতিরোধের জন্য
- (C) দ্বিতীয় বিশ্বযুদ্ধের সময় গবেষণায় নৈতিকতা লঙ্ঘনের অভিযোগে
- (D) গবেষণাক্ষেত্রে কুস্তিলকবৃত্তি প্রতিরোধের উদ্দেশ্যে



33. Which of the following is used to assess the progress of learning during classroom instruction?

- (A) Placement Assessment
- (B) Diagnostic Assessment
- (C) Formative Assessment
- (D) Summative Assessment



33. শ্রেণিকক্ষে পাঠদানের সময় কোন্ পদ্ধতিতে শিক্ষার অগ্রগতি মূল্যায়ন করা হয়?

- (A) প্লেসমেন্ট মূল্যায়ন
- (B) ডায়গনস্টিক মূল্যায়ন
- (C) ফর্মিটিভ মূল্যায়ন
- (D) সামিটিভ মূল্যায়ন



[Please Turn Over]

00



Y-16

34. Match List-I with List-II:

List-I (Key terms)	List-II (Explanation)
(a) Inter-cultural Communication	(i) Communication between two or more states
(b) Multi-cultural Communication	(ii) Communication among many cultures for better understanding
(c) Cross-cultural Communication	(iii) Communication among cultures which (who) live side by side without intermingling
(d) Transnational Communication	(iv) Communication among cultures for knowing and comprehending other cultures

Choose the most appropriate answer from the following options:

(a)	(b)	(c)	(d)
(A) (iii)	(iv)	(i)	(ii)
(B) (i)	(ii)	(iii)	(iv)
(C) (iv)	(iii)	(ii)	(i)
(D) (ii)	(i)	(iv)	(iii)

35. "Birds having feathers and cats having legs" are:

- (A) Practical Concepts
(B) Perceptual Concepts
(C) Theoretical Concepts
(D) Thematic Concepts

34. তালিকা-I-এর সঙ্গে তালিকা-II মেলান :

তালিকা-I (সূচক শব্দ)	তালিকা-II (ব্যাখ্যা)
(a) আন্তঃসাংস্কৃতিক যোগাযোগ	(i) দুই বা ততোধিক রাষ্ট্রের মধ্যে যোগাযোগ
(b) বহু-সাংস্কৃতিক যোগাযোগ	(ii) বিভিন্ন সংস্কৃতির মধ্যে পারস্পরিক বোধগম্যতা বৃদ্ধির উদ্দেশ্যে যোগাযোগ
(c) ক্রস-কালচারাল যোগাযোগ	(iii) প্রতিবেশী সংস্কৃতি, যাদের মধ্যে মিশ্রণ ঘটেনি, তাদের মধ্যে যোগাযোগ
(d) ট্রান্সন্যাশনাল যোগাযোগ	(iv) অন্য সংস্কৃতি জানা ও বোঝার জন্য তাদের মধ্যে যোগাযোগ

নিম্নলিখিত বিকল্পগুলি থেকে সর্বাপেক্ষা উপযুক্ত

উত্তর চিহ্নিত করুন :

(a)	(b)	(c)	(d)
(A) (iii)	(iv)	(i)	(ii)
(B) (i)	(ii)	(iii)	(iv)
(C) (iv)	(iii)	(ii)	(i)
(D) (ii)	(i)	(iv)	(iii)

35. "পালকযুক্ত পাখি এবং পা-ওয়ালা বেড়াল" হল :

- (A) ব্যবহারিক ধারণা (Practical Concepts)
(B) প্রত্যক্ষ ধারণা (Perceptual Concepts)
(C) তাত্ত্বিক ধারণা (Theoretical Concepts)
(D) থিম-সংক্রান্ত ধারণা (Thematic Concepts)

Y-17



00

36. Which of the following best describes the role of ICT in research?

- (A) It replaces the need for human analysis
(B) It helps in collecting, storing, analysing information
(C) It prevents access to secondary data sources
(D) It replaces collaboration among researchers



37. Given below are two statements: One is labelled as Assertion (A) and the other as Reason (R).

Assertion (A) : The Internet can be accessed without using any physical infrastructure.

Reason (R) : Wireless technologies such as Wi-Fi allow users to access the Internet from anywhere.

In the light of the above statements, choose the most appropriate answer from the following options:

- (A) Both (A) and (R) are correct and (R) is the correct explanation of (A)
(B) Both (A) and (R) are correct, but (R) is not the correct explanation of (A)
(C) Only (A) is wrong and (R) is correct
(D) Both (A) and (R) are not correct



38. Which one of the following is *not* a Video Conferencing platform?

- (A) Zoom
(B) Webex
(C) Azure
(D) Skype



36. নীচের কোন বস্তুব্যাটি গবেষণার ক্ষেত্রে ICT-র ভূমিকা যথাযথভাবে ব্যাখ্যা করে?

- (A) এটি মানুষের বিশ্লেষণী ক্ষমতাকে অপ্রাসঙ্গিক করে তোলে
(B) এটি তথ্য সংগ্রহ, সংরক্ষণ এবং বিশ্লেষণে সাহায্য করে
(C) এটি সেকেন্ডারি ডেটা সোর্স ব্যবহারে বাধা দেয়
(D) এটি গবেষকদের মধ্যে পারস্পরিক আদানপ্রদানকে প্রতিস্থাপন করে



37. নীচের দুটি বিবৃতির (statements) একটিকে মন্তব্য (Assertion) (A) অন্যটিকে যুক্তি (Reason) (R) বলা হয়েছে।

মন্তব্য (A) : কোনো বস্তুগত পরিকাঠামো (physical infrastructure) ছাড়াই ইন্টারনেট ব্যবহার করা যায়।

যুক্তি (R) : বিভিন্ন বেতার প্রযুক্তি, যেমন ওয়াই-ফাই, যেকোনো স্থান থেকে ইন্টারনেট ব্যবহার সম্ভব করে তুলেছে।

নিম্নলিখিত বিকল্পগুলি থেকে সর্বাপেক্ষা উপযুক্ত উত্তর চিহ্নিত করুন :

- (A) (A) ও (R) উভয়ই সত্য। (R), (A)-কে যথাযথভাবে ব্যাখ্যা করে
(B) (A) ও (R) উভয়ই সত্য। তবে (R), (A)-র যথাযথ ব্যাখ্যা নয়
(C) শুধুমাত্র (A) অসত্য এবং (R) সত্য
(D) (A) ও (R) উভয়ই অসত্য



38. নীচের বিকল্পগুলির মধ্যে কোনটি ভিডিও কনফারেন্সিং প্ল্যাটফর্ম নয়?

- (A) জুম (Zoom)
(B) ওয়েবেক্স (Webex)
(C) অ্যাজুর (Azure)
(D) স্কাইপ (Skype)



[Please Turn Over]

00



Y-18

39. In an exam there are 20 questions, each incorrect answer is awarded -1 mark, each correct answer is awarded 3 marks and each unattempted question is awarded 0 mark. Which of the following cannot be a possible score in the exam?

(A) -7

(B) 50

(C) -19

(D) 58



60

18/40

40. A batsman scored 62 runs. He scored all runs in boundaries (fours and sixes). What is the maximum percent (approximate) of runs he scored by hitting fours?

(A) 97%

(B) 71%

(C) 94%

(D) 90%



62 x 9/10 = 55.8

41. Arrange the platforms according to their year of launch in ascending order:

(i) YouTube - 2005

(ii) Twitter - 2006

(iii) Instagram - 2010

(iv) Facebook - 2004

Choose the most appropriate answer from the options given below:

(A) (iv), (ii), (iii), (i)

(B) (ii), (iv), (i), (iii)

(C) (iv), (i), (ii), (iii)

(D) (i), (iv), (ii), (iii)

39. একটি পরীক্ষায় 20 টি প্রশ্ন দেওয়া হয়েছে। প্রতিটি অশুদ্ধ উত্তরের জন্য -1 এবং শুদ্ধ উত্তরের জন্য 3 নম্বর দেওয়া হবে। কোনো প্রশ্নের উত্তর না দিলে, সেই প্রশ্নে 0 দেওয়া হবে। ওই পরীক্ষায় নীচের কোন সংখ্যাটি সর্বমোট নম্বরের হিসেবে পাওয়া সম্ভব নয়?

(A) -7

(B) 50

(C) -19

(D) 58



40. একজন ব্যাটসম্যান 62 রান করেছেন। সমস্ত রানই এসেছে বাউন্ডারি (4 এবং 6) থেকে। আনুমানিকভাবে সর্বোচ্চ কত শতাংশ রান চার মারার মাধ্যমে এসেছে?

(A) 97%

(B) 71%

(C) 94%

(D) 90%



6

A

1/67

41. নীচের প্ল্যাটফর্মগুলির শুরু হওয়ার তারিখ অনুযায়ী উর্ধ্বগত কালানুক্রমে সাজান :

(i) ইউটিউব

(ii) টুইটার

(iii) ইনস্টাগ্রাম

(iv) ফেসবুক



নিম্নলিখিত বিকল্পগুলি থেকে সর্বাধিক উপযুক্ত উত্তর চিহ্নিত করুন :

(A) (iv), (ii), (iii), (i)

(B) (ii), (iv), (i), (iii)

(C) (iv), (i), (ii), (iii)

(D) (i), (iv), (ii), (iii)

Y-19

00

42. The advantage of open book examination is to:

- (A) Increase resource management skills
(B) Increase inequality among students
(C) Increase plagiarism
(D) Increase difficulty in assessing students mastery

42. ওপেন বুক (open book) পরীক্ষার সুবিধা হল :

- (A) উপাদান পরিচালনা দক্ষতা (resource management skills) বৃদ্ধি
(B) শিক্ষার্থীদের মধ্যে বৈষম্য বৃদ্ধি
(C) কুণ্ডিলকবৃদ্ধি বৃদ্ধি
(D) শিক্ষার্থীদের কুশলতা মূল্যায়নে অসুবিধা বৃদ্ধি

43. Blue baby syndrome is caused by the contamination of water due to:

- (A) Nitrates
(B) Phosphates
(C) Arsenic
(D) Fluoride

43. জলে যা মিশলে ব্লু বেবি সিনড্রোম (Blue baby syndrome) ঘটে :

- (A) নাইট্রেট
(B) ফসফেট
(C) আর্সেনিক
(D) ফ্লুরাইড

44. From a group of 5 boys and 3 girls, 3 persons are chosen at random. Find the probability that there are more girls chosen than boys ?

- (A) $2/7$
(B) $5/8$
(C) $4/7$
(D) $3/8$

44. 5 জন বালক এবং 3 জন বালিকার একটি দল থেকে র‍্যান্ডমভাবে (at random) 3 জনকে বেছে নেওয়া হল। এক্ষেত্রে, বালকদের চেয়ে বালিকাদের সংখ্যা বেশি হওয়ার সম্ভাবনা কত?

- (A) $2/7$
(B) $5/8$
(C) $4/7$
(D) $3/8$

45. Health care and agriculture belong to which of the following stream?

- (A) Vocational Education
(B) Technical Education
(C) Professional Education
(D) General Education

45. স্বাস্থ্য পরিষেবা এবং কৃষি নিম্নলিখিত কোন্ শাখার অন্তর্গত?

- (A) ভোকেশনাল শিক্ষা
(B) টেকনিক্যাল শিক্ষা
(C) প্রফেশনাল শিক্ষা
(D) সাধারণ শিক্ষা

00



46. 'Kyoto Protocol' is related to:

- (A) Air Pollution
- ✓ (B) Climate Change
- (C) Water Pollution
- (D) Greenhouse Gases



47. If the cost price of 40 oranges is equal to the selling price of 50 oranges, then the profit/loss percent is:

- (A) 5% profit
- ✓ (B) 20% loss
- (C) 20% profit
- (D) 5% loss



$$\begin{aligned} \text{AOC} &= \text{SP} \times \frac{40}{50} \\ \text{CP} &= \frac{40}{50} \times \text{SP} \\ &= \frac{4}{5} \times \text{SP} \\ &= 0.8 \times \text{SP} \end{aligned}$$

48. NEP 2020 recommends art-integrated education across different subjects to promote:

- ✓ (A) Holistic Learning
- (B) Theoretical Learning
- (C) Passive Learning
- (D) Fragmented Learning



Y-20

46. 'কিয়োটো প্রোটোকল' (Kyoto Protocol) যার সঙ্গে সম্পর্কিত :

- (A) বায়ুদূষণ
- (B) জলবায়ু পরিবর্তন
- (C) জলদূষণ
- (D) গ্রিনহাউস গ্যাস



47. যদি 40 টি কমলালেবুর ক্রয়মূল্য 50 টি কমলালেবুর বিক্রয়মূল্যের সমান হয়, তাহলে লাভ/ক্ষতির শতাংশ হল :

- (A) 5% লাভ
- (B) 20% ক্ষতি
- (C) 20% লাভ
- (D) 5% ক্ষতি



48. NEP 2020 অনুসারে শিক্ষার বিভিন্ন ক্ষেত্রে শিল্পকে অন্তর্ভুক্ত করার উদ্দেশ্য হল :

- (A) সামূহিক শিক্ষা (Holistic Learning)
- (B) তাত্ত্বিক শিক্ষা (Theoretical Learning)
- (C) গৌণ শিক্ষা (Passive Learning)
- (D) খণ্ডিত শিক্ষা (Fragmented Learning)

Y-21

00

49. Given below are two statements: One is labelled as Assertion (A) and the other as Reason (R).

Assertion (A) : The Mimamsa School of Indian Philosophy places a strong emphasis on the performance of Vedic rituals and sacrifices.

Reason (R) : According to Mimamsa, The Vedas are eternal and infallible and their injunctions regarding rituals lead directly to desired outcomes (Dharma and Artha) in this world and the next.

Choose the most appropriate answer from the following options:

- (A) Both (A) and (R) are true and (R) is the correct explanation of (A)
- (B) (A) is true, but (R) is false
- (C) Both (A) and (R) are true, but (R) is not the correct explanation of (A)
- (D) (A) is false, but (R) is true

50. The sequence of learning process from general towards specific components is :

- (A) Competencies, learning outcomes, aims of education, and curricular goals
- (B) Learning outcomes, aims of education, curricular goals, and competencies
- (C) Curricular goals, aims of education, learning outcomes, and competencies
- (D) Aims of education, curricular goals, competencies, and learning outcomes

49. নীচের দুটি বিবৃতির (statements) একটিকে মন্তব্য (Assertion) (A) অন্যটিকে যুক্তি (Reason) (R) বলা হয়েছে।

মন্তব্য (A) : ভারতীয় দর্শনের মীমাংসাবিদ্যা বৈদিক প্রথা এবং উৎসর্গের ওপর গুরুত্ব দেয়।

যুক্তি (R) : মীমাংসাবিদ্যা অনুসারে, বেদ চিরায়ত এবং অভ্রান্ত। বৈদিক প্রথা এবং উৎসর্গ পদ্ধতি সম্পর্কিত ক্রিয়াকর্ম পালন করলে ইহকাল-পরকালে ধর্ম এবং অর্থলাভ হয়।

নিম্নলিখিত বিকল্পগুলি থেকে সর্বাপেক্ষা উপযুক্ত উত্তর চিহ্নিত করুন :

- (A) (A) এবং (R) উভয়ই সত্য। (R), (A)-র যথাযথ ব্যাখ্যা
- (B) (A) সত্য কিন্তু (R) অসত্য
- (C) (A) এবং (R), উভয়ই সত্য। কিন্তু (R), (A)-র যথাযথ ব্যাখ্যা নয়
- (D) (A) অসত্য কিন্তু (R) সত্য

50. সাধারণ থেকে বিশেষ উপাদানের অভিমুখে শিক্ষার ক্রমটি হল :

- (A) সক্ষমতা, শিক্ষার ফলাফল, শিক্ষার লক্ষ্য, পাঠ্যক্রমের উদ্দেশ্য
- (B) শিক্ষার ফলাফল, শিক্ষার লক্ষ্য, পাঠ্যক্রমের উদ্দেশ্য, সক্ষমতা
- (C) পাঠ্যক্রমের উদ্দেশ্য, শিক্ষার লক্ষ্য, শিক্ষার ফলাফল, সক্ষমতা
- (D) শিক্ষার লক্ষ্য, পাঠ্যক্রমের উদ্দেশ্য, সক্ষমতা, শিক্ষার ফলাফল