

DSSSB LDC

Previous Year Paper
26 Aug, 2019 Shift 3



Adda247

Test Prime

ALL EXAMS, ONE SUBSCRIPTION



1,00,000+
Mock Tests



**Personalised
Report Card**



**Unlimited
Re-Attempt**



600+
Exam Covered



25,000+ Previous
Year Papers



500%
Refund



ATTEMPT FREE MOCK NOW

Education Consultant India Ltd.

Notations :

- 1.Options shown in green color and with ✓ icon are correct.
- 2.Options shown in red color and with ✗ icon are incorrect.

Question Paper Name:	Lower Division Clerk 26th August 2019 S3
Subject Name:	LOWER DIVISION CLERK
Creation Date:	2019-08-26 19:49:33
Duration:	120
Total Marks:	200
Display Marks:	Yes
Share Answer Key With Delivery Engine:	No
Actual Answer Key:	Yes
Calculator:	None
Magnifying Glass Required?:	No
Ruler Required?:	No
Eraser Required?:	No
Scratch Pad Required?:	No
Rough Sketch/Notepad Required?:	No
Protractor Required?:	No
Show Watermark on Console?:	Yes
Highlighter:	No
Auto Save on Console?:	No

	Mental Ability1
Group Number :	1
Group Id :	545927661
Group Maximum Duration :	0
Group Minimum Duration :	0
Revisit allowed for view? :	No
Revisit allowed for edit? :	No
Break time:	0
Group Marks:	20
Revisit allowed for group Instructions? :	Yes
Maximum Instruction Time:	0
Minimum Instruction Time:	0

	Mental Ability1
Section Id :	545927661
Section Number :	1
Section type :	Online
Mandatory or Optional:	Mandatory
Number of Questions:	20
Number of Questions to be attempted:	20
Section Marks:	20

Display Number Panel:	Yes
Group All Questions:	No
Sub-Section Number:	1
Sub-Section Id:	545927793
Question Shuffling Allowed :	Yes

Question Number : 1 Question Id : 54592713333 Question Type : MCQ Option Shuffling : Yes Display Question Number : Yes
Single Line Question Option : No Option Orientation : Vertical

Correct Marks : 1 Wrong Marks : 0.25

Which of the following words cannot be made by using the letters from the given word?

PROVERBIAL

Options :

- ✖ BRAVO
- ✖ LABOR
- ✖ PROVE
- ✔ VALUE

Question Number : 1 Question Id : 54592713333 Question Type : MCQ Option Shuffling : Yes Display Question Number : Yes
Single Line Question Option : No Option Orientation : Vertical

Correct Marks : 1 Wrong Marks : 0.25

निम्नलिखित में से कौन सा-शब्द दिए गए शब्द से अक्षरों का उपयोग करके नहीं बनाया जा सकता है?

PROVERBIAL

Options :

- ✖ BRAVO
- ✖ LABOR
- ✖ PROVE
- ✔ VALUE

Question Number : 2 Question Id : 54592713334 Question Type : MCQ Option Shuffling : Yes Display Question Number : Yes
Single Line Question Option : No Option Orientation : Vertical

Correct Marks : 1 Wrong Marks : 0.25

Select the term that will come next in the following series.

X25Z, S20U, N15P,-----

Options :

- ✖ J10L
- ✔ I10K
- ✖ H10J
- ✖ D5G

Question Number : 2 Question Id : 54592713334 Question Type : MCQ Option Shuffling : Yes Display Question Number : Yes
Single Line Question Option : No Option Orientation : Vertical

Correct Marks : 1 Wrong Marks : 0.25

नीचे दी गई श्रृंखला में जो अगला पद आएगा उसका चयन करें।

X25Z, S20U, N15P, -----

Options :

1. ✖ J10L
2. ✔ I10K
3. ✖ H10J
4. ✖ D5G

Question Number : 3 Question Id : 54592713335 Question Type : MCQ Option Shuffling : Yes Display Question Number : Yes
Single Line Question Option : No Option Orientation : Vertical

Correct Marks : 1 Wrong Marks : 0.25

Find the missing term in the following letter series.

OXXXXXO, XXXXXOO, XXXXXOO, XXXXOXO, XXXOXXO, ?

Options :

1. ✖ XOXXXXO
2. ✔ XXOXXXXO
3. ✖ XOXXXXOX
4. ✖ OXOXXXXX

Question Number : 3 Question Id : 54592713335 Question Type : MCQ Option Shuffling : Yes Display Question Number : Yes
Single Line Question Option : No Option Orientation : Vertical

Correct Marks : 1 Wrong Marks : 0.25

निम्नलिखित अक्षर श्रृंखला में लुप्त पद को ज्ञात करें

OXXXXXO, XXXXXOO, XXXXXOO, XXXXOXO, XXXOXXO, ?

Options :

1. ✖ XOXXXXO
2. ✔ XXOXXXXO
3. ✖ XOXXXXOX
4. ✖ OXOXXXXX

Question Number : 4 Question Id : 54592713336 Question Type : MCQ Option Shuffling : Yes Display Question Number : Yes
Single Line Question Option : No Option Orientation : Vertical

Correct Marks : 1 Wrong Marks : 0.25

Out of the given options, three are similar in a certain manner. However, one option is NOT like the other three. Select the option which is different from the rest.

Options :

1. ✖ DBF
2. ✖ JHL
3. ✖ PNR
4. ✔ TVX

Question Number : 4 Question Id : 54592713336 Question Type : MCQ Option Shuffling : Yes Display Question Number : Yes
Single Line Question Option : No Option Orientation : Vertical

Correct Marks : 1 Wrong Marks : 0.25

दिए गए विकल्पों में से, तीन एक निश्चित तरीके से समान हैं। हालाँकि, एक विकल्प अन्य तीन की तरह नहीं है। उस विकल्प का चयन करें जो बाकी से अलग है।

Options :

1. ✖ DBF
2. ✖ JHL
3. ✖ PNR

4. ✓ TVX

Question Number : 5 Question Id : 54592713337 Question Type : MCQ Option Shuffling : Yes Display Question Number : Yes
Single Line Question Option : No Option Orientation : Vertical

Correct Marks : 1 Wrong Marks : 0.25

Out of the given options, three are similar in a certain manner. However, one option is NOT like the other three. Select the option which is different from the rest.

Options :

1. ✗ Train
2. ✗ Bus
3. ✗ Taxi
4. ✓ Aeroplane

Question Number : 5 Question Id : 54592713337 Question Type : MCQ Option Shuffling : Yes Display Question Number : Yes
Single Line Question Option : No Option Orientation : Vertical

Correct Marks : 1 Wrong Marks : 0.25

दिए गए विकल्पों में से, तीन एक निश्चित तरीके से समान हैं। हालाँकि, एक विकल्प अन्य तीन की तरह नहीं है। उस विकल्प का चयन करें जो बाकी से अलग है।

Options :

1. ✗ रेलगाड़ी
2. ✗ बस
3. ✗ टैक्सी
4. ✓ विमान

Question Number : 6 Question Id : 54592713338 Question Type : MCQ Option Shuffling : Yes Display Question Number : Yes
Single Line Question Option : No Option Orientation : Vertical

Correct Marks : 1 Wrong Marks : 0.25

In the given options 3 pair of words are similarly related and one pair is differently related. Find the pair which is differently related.

Options :

1. ✓ Sugar : Sweet
2. ✗ Lemon : Yellow
3. ✗ Leaf : Green
4. ✗ Snow : White

Question Number : 6 Question Id : 54592713338 Question Type : MCQ Option Shuffling : Yes Display Question Number : Yes
Single Line Question Option : No Option Orientation : Vertical

Correct Marks : 1 Wrong Marks : 0.25

दिए गए विकल्पों में शब्दों की 3 जोड़ी समान रूप से सम्बंधित हैं, और एक जोड़ी अलग तरह से संबंधित है। उस जोड़ी को ज्ञात करें जो अलग तरह से संबंधित है।

Options :

1. ✓ चीनी : मीठा
2. ✗ नींबू : पीला
3. ✗ पत्ती : हरा
4. ✗ हिम : सफेद

Question Number : 7 Question Id : 54592713339 Question Type : MCQ Option Shuffling : Yes Display Question Number : Yes
Single Line Question Option : No Option Orientation : Vertical

Correct Marks : 1 Wrong Marks : 0.25

Select the option that is related to the third term on the same basis as the second term is related to the first term.

VDX : EWC :: WBQ : ?

Options :

1. ✓ DYJ
2. ✗ UZO
3. ✗ TYN
4. ✗ XCR

Question Number : 7 Question Id : 54592713339 Question Type : MCQ Option Shuffling : Yes Display Question Number : Yes
Single Line Question Option : No Option Orientation : Vertical

Correct Marks : 1 Wrong Marks : 0.25

उस विकल्प का चयन करें जो तीसरे पद से उसी प्रकार से संबंधित है जिस प्रकार से दूसरा पद पहले पद से संबंधित है।

VDX : EWC :: WBQ : ?

Options :

1. ✓ DYJ
2. ✗ UZO
3. ✗ TYN
4. ✗ XCR

Question Number : 8 Question Id : 54592713340 Question Type : MCQ Option Shuffling : Yes Display Question Number : Yes
Single Line Question Option : No Option Orientation : Vertical

Correct Marks : 1 Wrong Marks : 0.25

Select the option that is related to the third term on the same basis as the second term is related to the first term.

Fly : Air :: Swim : ?

Options :

1. ✗ Costume
2. ✓ Water
3. ✗ Pool
4. ✗ Exercise

Question Number : 8 Question Id : 54592713340 Question Type : MCQ Option Shuffling : Yes Display Question Number : Yes
Single Line Question Option : No Option Orientation : Vertical

Correct Marks : 1 Wrong Marks : 0.25

उस विकल्प का चयन करें जो तीसरे पद से उसी प्रकार से संबंधित है जिस प्रकार से दूसरा पद पहले पद से संबंधित है।

उड़ना : वायु :: तैरना : ?

Options :

1. ✗ पोशाक
2. ✓ पानी
3. ✗ पूल
4. ✗ व्यायाम

Question Number : 9 Question Id : 54592713341 Question Type : MCQ Option Shuffling : Yes Display Question Number : Yes
Single Line Question Option : No Option Orientation : Vertical

Correct Marks : 1 Wrong Marks : 0.25

From the given options find a pair of letters which is analogous to the given pair.

SJC : HQX

Options :

1. ✗ SBZ : TBE
2. ✗ RAY : TUC
3. ✓ TDA : GWZ
4. ✗ QZX : CDE

Question Number : 9 Question Id : 54592713341 Question Type : MCQ Option Shuffling : Yes Display Question Number : Yes
Single Line Question Option : No Option Orientation : Vertical

Correct Marks : 1 Wrong Marks : 0.25

दिए गए विकल्पों में से अक्षरों की एक जोड़ी को ज्ञात करें, जो दिए गए जोड़े के अनुरूप है।

SJC : HQX

Options :

1. ✗ SBZ : TBE
2. ✗ RAY : TUC
3. ✓ TDA : GWZ
4. ✗ QZX : CDE

Question Number : 10 Question Id : 54592713342 Question Type : MCQ Option Shuffling : Yes Display Question Number : Yes
Single Line Question Option : No Option Orientation : Vertical

Correct Marks : 1 Wrong Marks : 0.25

If COMRADES is coded as DQPVFJLA, then MACHINE will be coded as _____.

Options :

1. ✓ NCFLNTL
2. ✗ NCFMPTL
3. ✗ NCFMSKT
4. ✗ NCFKPTK

Question Number : 10 Question Id : 54592713342 Question Type : MCQ Option Shuffling : Yes Display Question Number : Yes
Single Line Question Option : No Option Orientation : Vertical

Correct Marks : 1 Wrong Marks : 0.25

यदि COMRADES को DQPVFJLA के रूप में कोडित किया जाता है, तो MACHINE को _____ के रूप में कोडित किया जाएगा।

Options :

1. ✓ NCFLNTL
2. ✗ NCFMPTL
3. ✗ NCFMSKT
4. ✗ NCFKPTK

Question Number : 11 Question Id : 54592713343 Question Type : MCQ Option Shuffling : Yes Display Question Number : Yes
Single Line Question Option : No Option Orientation : Vertical

Correct Marks : 1 Wrong Marks : 0.25

In a certain code language, 352 means 'you are here', 482 means 'we are there' and 813 means 'here or there'. Find the code for 'or'.

Options :

1. ✗ 3
2. ✓ 1

3. ✖ 8

4. ✖ 2

Question Number : 11 Question Id : 54592713343 Question Type : MCQ Option Shuffling : Yes Display Question Number : Yes
Single Line Question Option : No Option Orientation : Vertical

Correct Marks : 1 Wrong Marks : 0.25

एक निश्चित कोड भाषा में, 352 का अर्थ है 'you are here', 482 का अर्थ है 'we are there ' और 813 का अर्थ है 'here or there'. 'or ' के लिए कोड ज्ञात करो

Options :

1. ✖ 3

2. ✔ 1

3. ✖ 8

4. ✖ 2

Question Number : 12 Question Id : 54592713344 Question Type : MCQ Option Shuffling : Yes Display Question Number : Yes
Single Line Question Option : No Option Orientation : Vertical

Correct Marks : 1 Wrong Marks : 0.25

Here are some words from an artificial language.

'bofmok' means 'handshake',

'boftay' means 'shakeout'

'zamtay' means 'outsmart'.

Which word would mean 'smartest'?

Options :

1. ✖ moklex

2. ✖ bofnod

3. ✔ jivzam

4. ✖ tayhif

Question Number : 12 Question Id : 54592713344 Question Type : MCQ Option Shuffling : Yes Display Question Number : Yes
Single Line Question Option : No Option Orientation : Vertical

Correct Marks : 1 Wrong Marks : 0.25

यहाँ एक कृत्रिम भाषा के कुछ शब्द दिए गए हैं।

'bofmok' का अर्थ है 'handshake'

'boftay' का अर्थ है 'shakeout'

'zamtay' का अर्थ है 'outsmart'

किस शब्द का अर्थ 'smartest' है?

Options :

1. ✖ moklex

2. ✖ bofnod

3. ✔ jivzam

4. ✖ tayhif

Question Number : 13 Question Id : 54592713345 Question Type : MCQ Option Shuffling : Yes Display Question Number : Yes
Single Line Question Option : No Option Orientation : Vertical

Correct Marks : 1 Wrong Marks : 0.25

Arrange the following words as per order in the English dictionary and choose the last word.

1. FRACAS
2. FOURTH
3. FRANCE
4. FREAKS
5. FRAMED

Options :

1. ✖ FOURTH
2. ✖ FRACAS
3. ✔ FREAKS
4. ✖ FRANCE

Question Number : 13 Question Id : 54592713345 Question Type : MCQ Option Shuffling : Yes Display Question Number : Yes
Single Line Question Option : No Option Orientation : Vertical

Correct Marks : 1 Wrong Marks : 0.25

नीचे दिए गए शब्दों को इस प्रकार व्यवस्थित करें जैसे की वे किसी अंग्रेजी डिक्शनरी में आयेंगे, और जो शब्द आखरी आएगा वो चुने

1. FRACAS
2. FOURTH
3. FRANCE
4. FREAKS
5. FRAMED

Options :

1. ✖ FOURTH
2. ✖ FRACAS
3. ✔ FREAKS
4. ✖ FRANCE

Question Number : 14 Question Id : 54592713346 Question Type : MCQ Option Shuffling : Yes Display Question Number : Yes
Single Line Question Option : No Option Orientation : Vertical

Correct Marks : 1 Wrong Marks : 0.25

If the 9th of a month falls on a Monday, 25th of that month will fall on which day of the week?

Options :

1. ✖ Sunday
2. ✖ Thursday
3. ✖ Monday
4. ✔ Wednesday

Question Number : 14 Question Id : 54592713346 Question Type : MCQ Option Shuffling : Yes Display Question Number : Yes
Single Line Question Option : No Option Orientation : Vertical

Correct Marks : 1 Wrong Marks : 0.25

यदि महीने की 9 तारीख सोमवार पड़ती है, तो उस महीने की 25 तारीख सप्ताह के किस दिन पड़ेगी?

Options :

1. ✖ रविवार
2. ✖ गुरुवार
3. ✖ सोमवार
4. ✔ बुधवार

Question Number : 15 Question Id : 54592713347 Question Type : MCQ Option Shuffling : Yes Display Question Number : Yes
Single Line Question Option : No Option Orientation : Vertical

Correct Marks : 1 Wrong Marks : 0.25

At a family gathering M explained her relation with N by saying that N is the grand son of M's father's daughter-in-law. If M's father and M have no siblings, then how is N related to M?

Options :

1. ✓ Son
2. ✗ Brother
3. ✗ Father
4. ✗ Son-in-law

Question Number : 15 Question Id : 54592713347 Question Type : MCQ Option Shuffling : Yes Display Question Number : Yes
Single Line Question Option : No Option Orientation : Vertical

Correct Marks : 1 Wrong Marks : 0.25

एक पारिवारिक सभा में M ने N के साथ अपने संबंध को यह कहते हुए समझाया की N, M के पिता के पिता के पुत्रवधू का पोता है। यदि M के पिता और M का कोई भाई-बहन नहीं है, तो N, M से किस प्रकार सम्बंधित है?

Options :

1. ✓ बेटा
2. ✗ भाई
3. ✗ पिता
4. ✗ दामाद

Question Number : 16 Question Id : 54592713348 Question Type : MCQ Option Shuffling : Yes Display Question Number : Yes
Single Line Question Option : No Option Orientation : Vertical

Correct Marks : 1 Wrong Marks : 0.25

If the letters N, F, D, R, I & E are numbered 1, 2, 3, 4, 5 & 6 respectively. Select that combination of numbers so that letters arranged accordingly, form a meaningful word.

Options :

1. ✗ 642315
2. ✓ 245613
3. ✗ 241356
4. ✗ 532614

Question Number : 16 Question Id : 54592713348 Question Type : MCQ Option Shuffling : Yes Display Question Number : Yes
Single Line Question Option : No Option Orientation : Vertical

Correct Marks : 1 Wrong Marks : 0.25

यदि अक्षर N, F, D, R, I और E क्रमशः 1, 2, 3, 4, 5 और 6 क्रमांकित हैं। संख्याओं के उस संयोजन का चयन करें, जो अक्षरों के अनुसार व्यवस्थित हो और एक सार्थक शब्द बन सके।

Options :

1. ✗ 642315
2. ✓ 245613
3. ✗ 241356
4. ✗ 532614

Question Number : 17 Question Id : 54592713349 Question Type : MCQ Option Shuffling : Yes Display Question Number : Yes
Single Line Question Option : No Option Orientation : Vertical

Correct Marks : 1 Wrong Marks : 0.25

Six students P, Q, R, S, T and U are punished and they are standing with their backs to the wall. U is between S and P. R is at one end. T is not at the end and is to the right of P. S is not at the end. T and R are not next to each other. Who is to the left of Q?

Options :

1. ✓ T

2. ✖ R
3. ✖ S
4. ✖ P

Question Number : 17 Question Id : 54592713349 Question Type : MCQ Option Shuffling : Yes Display Question Number : Yes
Single Line Question Option : No Option Orientation : Vertical

Correct Marks : 1 Wrong Marks : 0.25

छह छात्र P, Q, R, S, T और U को दंडित किया जाता है और वे दीवार की ओर अपनी पीठ कर खड़े के हैं। U, S और P के बीच में है। R एक छोर पर है। T छोर पर नहीं है और P के दाईं ओर है। S छोर पर नहीं है। T और R एक दूसरे के बगल में नहीं हैं। Q के बायें ओर कौन है?

Options :

1. ✔ T
2. ✖ R
3. ✖ S
4. ✖ P

Question Number : 18 Question Id : 54592713350 Question Type : MCQ Option Shuffling : Yes Display Question Number : Yes
Single Line Question Option : No Option Orientation : Vertical

Correct Marks : 1 Wrong Marks : 0.25

Read the given statement and conclusions carefully and decide which of the conclusions logically follow(s) from the statement.

Statement: Reported incidences of cheating during final exam were much higher in a particular school as compared to last year.

Conclusion I : There were more invigilators during final exam this year as compared to last year.

Conclusion II : Final exam papers this year were more difficult as compared to last year.

Options :

1. ✖ Only conclusion I follows
2. ✖ Only conclusion II follows
3. ✖ Both conclusion I and II follows
4. ✔ Neither conclusion I nor II follows

Question Number : 18 Question Id : 54592713350 Question Type : MCQ Option Shuffling : Yes Display Question Number : Yes
Single Line Question Option : No Option Orientation : Vertical

Correct Marks : 1 Wrong Marks : 0.25

दिए गए कथन और निष्कर्ष को ध्यान से पढ़ें और निर्णय लें कि कथन में से कौन सा निष्कर्ष तार्किक रूप से अनुसरण करता है।

कथन: अंतिम परीक्षा के दौरान धोखाधड़ी की रिपोर्ट की गई घटनाएं पिछले वर्ष की तुलना में किसी विशेष स्कूल में बहुत अधिक थीं।

निष्कर्ष I: पिछले वर्ष की तुलना में इस वर्ष अंतिम परीक्षा के दौरान अधिक पर्यवेक्षक थे।

निष्कर्ष II: पिछले वर्ष की तुलना में इस वर्ष अंतिम परीक्षा के पेपर अधिक कठिन थे।

Options :

1. ✖ केवल निष्कर्ष I अनुसरण करता है
2. ✖ केवल निष्कर्ष II अनुसरण करता है
3. ✖ दोनों निष्कर्ष I और II अनुसरण करते हैं
4. ✔ न तो निष्कर्ष I और न ही II अनुसरण करता है

Question Number : 19 Question Id : 54592713351 Question Type : MCQ Option Shuffling : Yes Display Question Number : Yes
Single Line Question Option : No Option Orientation : Vertical

Correct Marks : 1 Wrong Marks : 0.25

The statements below are followed by two conclusions labelled I and II . Assuming that the information in the statements is true, even if it appears to be at variance with generally established facts, decide which conclusion (s) logically and definitely follow(s) from the information given in the statements.

Statements:

- I. All insects are worms.
II. No worms are ants.

Conclusions:

- I. Some insects are not ants.
II. Some ants are not worms.

Options :

- ✗ Only conclusion I follows
- ✗ Only conclusion II follows
- ✓ Both conclusion I and II follows
- ✗ Neither conclusion I nor II follows

Question Number : 19 Question Id : 54592713351 Question Type : MCQ Option Shuffling : Yes Display Question Number : Yes
Single Line Question Option : No Option Orientation : Vertical

Correct Marks : 1 Wrong Marks : 0.25

नीचे दिए गए कथनों में I और II लेबल के दो निष्कर्ष दिए गए हैं। यह मानते हुए कि कथनों में जानकारी सत्य है, भले ही यह आम तौर पर स्थापित तथ्यों से अलग प्रतीत होता है यह निश्चित करें कि निष्कर्षों में दो गई जानकारी में से कौन-सा निष्कर्ष तार्किक है और निश्चित रूप से अनुसरण करता है।

कथन:

- I. सभी कीट कीड़े हैं
II. कोई कीड़े चींटियाँ नहीं हैं

निष्कर्ष:

- I. कुछ कीट चींटियाँ नहीं हैं
II. कुछ चींटियाँ कीड़े नहीं हैं

Options :

- ✗ केवल निष्कर्ष I अनुसरण करता है
- ✗ केवल निष्कर्ष II अनुसरण करता है
- ✓ दोनों निष्कर्ष I और II अनुसरण करते हैं
- ✗ न तो निष्कर्ष I और न ही II अनुसरण करता है

Question Number : 20 Question Id : 54592713352 Question Type : MCQ Option Shuffling : Yes Display Question Number : Yes
Single Line Question Option : No Option Orientation : Vertical

Correct Marks : 1 Wrong Marks : 0.25

Which two signs should be interchanged to make the below equation mathematically correct?

$$64 \div 16 - 12 + 2 \times 7 = 38$$

Options :

- ✗ -, ×
- ✗ ×, ÷
- ✓ +, ÷
- ✗ -, +

Question Number : 20 Question Id : 54592713352 Question Type : MCQ Option Shuffling : Yes Display Question Number : Yes
Single Line Question Option : No Option Orientation : Vertical

Correct Marks : 1 Wrong Marks : 0.25

नीचे दिए गए समीकरण को गणितीय रूप से सही बनाने के लिए किन दो चिन्हों को परस्पर स्थानांतरित करना चाहिए?

$64 \div 16 - 12 + 2 \times 7 = 38$

Options :

- 1. ✖ -, ×
- 2. ✖ ×, ÷
- 3. ✔ +, ÷
- 4. ✖ -, +

	Mental Ability2
Group Number :	2
Group Id :	545927662
Group Maximum Duration :	0
Group Minimum Duration :	0
Revisit allowed for view? :	No
Revisit allowed for edit? :	No
Break time:	0
Group Marks:	20
Revisit allowed for group Instructions? :	Yes
Maximum Instruction Time:	0
Minimum Instruction Time:	0

	Mental Ability2
Section Id :	545927662
Section Number :	1
Section type :	Online
Mandatory or Optional:	Mandatory
Number of Questions:	20
Number of Questions to be attempted:	20
Section Marks:	20
Display Number Panel:	Yes
Group All Questions:	No

Sub-Section Number:	1
Sub-Section Id:	545927794
Question Shuffling Allowed :	Yes

Question Number : 21 Question Id : 54592713353 Question Type : MCQ Option Shuffling : Yes Display Question Number : Yes
Single Line Question Option : No Option Orientation : Vertical
Correct Marks : 1 Wrong Marks : 0.25

Which two numbers should be interchanged to make the below equation mathematically correct?

$30 \times 5 + 6 - 18 \div 3 = 86$

Options :

- 1. ✖ 6,18
- 2. ✖ 3,6
- 3. ✔ 18,30

4. ✖ 5,6

Question Number : 21 Question Id : 54592713353 Question Type : MCQ Option Shuffling : Yes Display Question Number : Yes
Single Line Question Option : No Option Orientation : Vertical

Correct Marks : 1 Wrong Marks : 0.25

नीचे दिए गए समीकरण को गणितीय रूप से सही बनाने के लिए किन दो संख्याओं को परस्पर स्थानांतरित किया जाना चाहिए?

$$30 \times 5 + 6 - 18 \div 3 = 86$$

Options :

1. ✖ 6,18

2. ✖ 3,6

3. ✔ 18,30

4. ✖ 5,6

Question Number : 22 Question Id : 54592713354 Question Type : MCQ Option Shuffling : Yes Display Question Number : Yes
Single Line Question Option : No Option Orientation : Vertical

Correct Marks : 1 Wrong Marks : 0.25

Select the option that is related to the third term in the same way as the second term is related to the first term.

$$25 : 64 :: 49 : ?$$

Options :

1. ✔ 216

2. ✖ 210

3. ✖ 208

4. ✖ 214

Question Number : 22 Question Id : 54592713354 Question Type : MCQ Option Shuffling : Yes Display Question Number : Yes
Single Line Question Option : No Option Orientation : Vertical

Correct Marks : 1 Wrong Marks : 0.25

उस विकल्प का चयन करें जो तीसरे पद से उसी प्रकार से संबंधित है जिस प्रकार से दूसरा पद पहले पद से संबंधित है।

$$25 : 64 :: 49 : ?$$

Options :

1. ✔ 216

2. ✖ 210

3. ✖ 208

4. ✖ 214

Question Number : 23 Question Id : 54592713355 Question Type : MCQ Option Shuffling : Yes Display Question Number : Yes
Single Line Question Option : No Option Orientation : Vertical

Correct Marks : 1 Wrong Marks : 0.25

A number series is given here, only one number is wrong in the series, find out the wrong number :

35, 63, 100, 143, 195, 255, 323

Options :

1. ✖ 35

2. ✔ 100

3. ✖ 63

4. ✖ 143

Question Number : 23 Question Id : 54592713355 Question Type : MCQ Option Shuffling : Yes Display Question Number : Yes
Single Line Question Option : No Option Orientation : Vertical

Correct Marks : 1 Wrong Marks : 0.25

यहाँ संख्या की श्रृंखला दी गई है, श्रृंखला में केवल एक संख्या गलत है, गलत संख्या को ज्ञात करें:

35, 63, 100, 143, 195, 255, 323

Options :

1. ✖ 35
2. ✔ 100
3. ✖ 63
4. ✖ 143

Question Number : 24 Question Id : 54592713356 Question Type : MCQ Option Shuffling : Yes Display Question Number : Yes
Single Line Question Option : No Option Orientation : Vertical

Correct Marks : 1 Wrong Marks : 0.25

Out of the given options, three are similar in a certain manner. However, one option is NOT like the other three. Select the option which is different from the rest.

Options :

1. ✖ 25
2. ✔ 125
3. ✖ 225
4. ✖ 1225

Question Number : 24 Question Id : 54592713356 Question Type : MCQ Option Shuffling : Yes Display Question Number : Yes
Single Line Question Option : No Option Orientation : Vertical

Correct Marks : 1 Wrong Marks : 0.25

दिए गए विकल्पों में से, तीन एक निश्चित तरीके से समान हैं। हालाँकि, एक विकल्प अन्य तीन की तरह नहीं है। उस विकल्प का चयन करें जो बाकी से अलग है।

Options :

1. ✖ 25
2. ✔ 125
3. ✖ 225
4. ✖ 1225

Question Number : 25 Question Id : 54592713357 Question Type : MCQ Option Shuffling : Yes Display Question Number : Yes
Single Line Question Option : No Option Orientation : Vertical

Correct Marks : 1 Wrong Marks : 0.25

Select the option that is related to the third term on the same basis as the second term is related to the first term.

0.16 : 0.032 :: 1.28 : ?

Options :

1. ✖ 0.32
2. ✔ 0.256
3. ✖ 0.64
4. ✖ 0.16

Question Number : 25 Question Id : 54592713357 Question Type : MCQ Option Shuffling : Yes Display Question Number : Yes
Single Line Question Option : No Option Orientation : Vertical

Correct Marks : 1 Wrong Marks : 0.25

उस विकल्प का चयन करें जो तीसरे पद से उसी प्रकार से संबंधित है जिस प्रकार से दूसरा पद पहले पद से संबंधित है।

0.16 : 0.032 :: 1.28 : ?

Options :

1. ✗ 0.32
2. ✓ 0.256
3. ✗ 0.64
4. ✗ 0.16

Question Number : 26 Question Id : 54592713358 Question Type : MCQ Option Shuffling : Yes Display Question Number : Yes
Single Line Question Option : No Option Orientation : Vertical

Correct Marks : 1 Wrong Marks : 0.25

Complete the following number series:

-5, -3, 1, 7, 15, 25, -----

Options :

1. ✗ 36
2. ✓ 37
3. ✗ 34
4. ✗ 35

Question Number : 26 Question Id : 54592713358 Question Type : MCQ Option Shuffling : Yes Display Question Number : Yes
Single Line Question Option : No Option Orientation : Vertical

Correct Marks : 1 Wrong Marks : 0.25

निम्नलिखित संख्या श्रृंखला को पूरा करें।

-5, -3, 1, 7, 15, 25, -----

Options :

1. ✗ 36
2. ✓ 37
3. ✗ 34
4. ✗ 35

Question Number : 27 Question Id : 54592713359 Question Type : MCQ Option Shuffling : Yes Display Question Number : Yes
Single Line Question Option : No Option Orientation : Vertical

Correct Marks : 1 Wrong Marks : 0.25

Find the missing number in the given number series.

2,3,5,8,13, ?,34

Options :

1. ✗ 15
2. ✗ 20
3. ✗ 25
4. ✓ 21

Question Number : 27 Question Id : 54592713359 Question Type : MCQ Option Shuffling : Yes Display Question Number : Yes
Single Line Question Option : No Option Orientation : Vertical

Correct Marks : 1 Wrong Marks : 0.25

दी गई संख्या श्रृंखला में लुप्त संख्या को ज्ञात करें।

2,3,5,8,13, ?,34

Options :

1. ✖ 15
2. ✖ 20
3. ✖ 25
4. ✔ 21

Question Number : 28 Question Id : 54592713360 Question Type : MCQ Option Shuffling : Yes Display Question Number : Yes
Single Line Question Option : No Option Orientation : Vertical

Correct Marks : 1 Wrong Marks : 0.25

Out of the given number pairs, three are similar in a certain manner. However, one pair is NOT like the other three. Select the pair which is different from the rest.

Options :

1. ✖ 259, 740
2. ✖ 199, 800
3. ✔ 436, 564
4. ✖ 246, 753

Question Number : 28 Question Id : 54592713360 Question Type : MCQ Option Shuffling : Yes Display Question Number : Yes
Single Line Question Option : No Option Orientation : Vertical

Correct Marks : 1 Wrong Marks : 0.25

दिए गए संख्या जोड़ियों में से, तीन एक निश्चित तरीके से समान हैं। हालाँकि, एक जोड़ी अन्य तीन की तरह नहीं है। उस जोड़ी का चयन करें जो बाकियों से अलग हो।

Options :

1. ✖ 259, 740
2. ✖ 199, 800
3. ✔ 436, 564
4. ✖ 246, 753

Question Number : 29 Question Id : 54592713361 Question Type : MCQ Option Shuffling : Yes Display Question Number : Yes
Single Line Question Option : No Option Orientation : Vertical

Correct Marks : 1 Wrong Marks : 0.25

If $4\#2 = 16$, $9\#1 = 9$, $5\#3 = 125$ then find the value of $6\#3 = ?$

Options :

1. ✖ 9
2. ✖ 3
3. ✔ 216
4. ✖ 36

Question Number : 29 Question Id : 54592713361 Question Type : MCQ Option Shuffling : Yes Display Question Number : Yes
Single Line Question Option : No Option Orientation : Vertical

Correct Marks : 1 Wrong Marks : 0.25

यदि $4\#2 = 16$, $9\#1 = 9$, $5\#3 = 125$ है तो $6\#3 = ?$ का मूल्य ज्ञात करें।

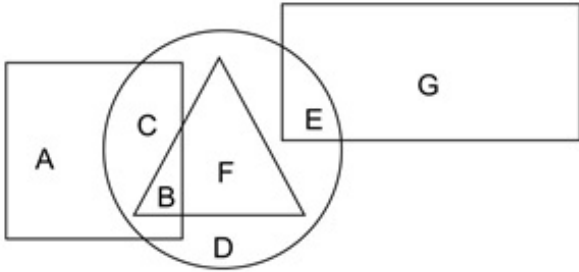
Options :

1. ✖ 9
2. ✖ 3
3. ✔ 216
4. ✖ 36

Question Number : 30 Question Id : 54592713362 Question Type : MCQ Option Shuffling : Yes Display Question Number : Yes
Single Line Question Option : No Option Orientation : Vertical

Correct Marks : 1 Wrong Marks : 0.25

In the following figure, rectangle represents writers, triangle represents botanists, circle represents mothers and square represents Indians. Which set of letters represents mothers who are NOT botanists?



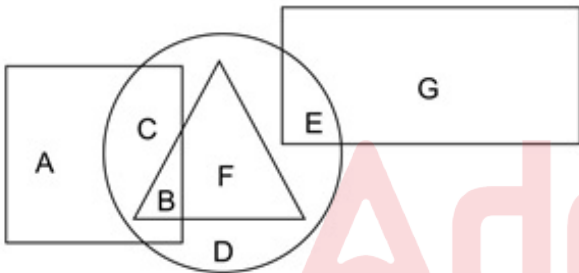
Options :

1. ✗ ACB
2. ✓ CDE
3. ✗ BFE
4. ✗ EG

Question Number : 30 Question Id : 54592713362 Question Type : MCQ Option Shuffling : Yes Display Question Number : Yes
Single Line Question Option : No Option Orientation : Vertical

Correct Marks : 1 Wrong Marks : 0.25

निम्नलिखित आकृति में, आयत लेखकों को दर्शाता है, त्रिकोण वनस्पतिविदों को दर्शाता है, वृत्त माताओं को दर्शाता है और वर्ग भारतीयों को दर्शाता है।
अक्षरों का कौन सा सेट माताओं को दर्शाता है जो वनस्पतिविद् नहीं हैं?



Options :

1. ✗ ACB
2. ✓ CDE
3. ✗ BFE
4. ✗ EG

Question Number : 31 Question Id : 54592713363 Question Type : MCQ Option Shuffling : Yes Display Question Number : Yes
Single Line Question Option : No Option Orientation : Vertical

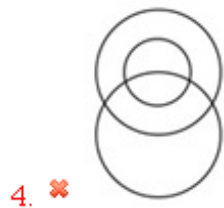
Correct Marks : 1 Wrong Marks : 0.25

Which of the following Venn diagrams best represents the relationship between fathers, grand mothers and living things?

Options :



1. ✓



Question Number : 31 Question Id : 54592713363 Question Type : MCQ Option Shuffling : Yes Display Question Number : Yes
Single Line Question Option : No Option Orientation : Vertical

Correct Marks : 1 Wrong Marks : 0.25

निम्न में से कौन सा वेन आरेख पिताओं, दादियों/नानियों और जीवित चीजों के बीच के संबंध को सबसे अच्छा दर्शाता है?

Options :



Question Number : 32 Question Id : 54592713364 Question Type : MCQ Option Shuffling : Yes Display Question Number : Yes
Single Line Question Option : No Option Orientation : Vertical

Correct Marks : 1 Wrong Marks : 0.25

Two ships S and R start from the same port. Ship S sails 50 miles East, then it turns right and sails 75 miles, then it turns to its right again and sails 25 miles. In the meanwhile Ship R sails 125 miles South, then it turns left and sails 25 miles, then it turns South and sails 25 miles. Where is Ship S with respect to Ship R?

Options :

1. ✓ 75 miles North
2. ✗ 75 miles South
3. ✗ 225 miles North
4. ✗ 225 miles South

Question Number : 32 Question Id : 54592713364 Question Type : MCQ Option Shuffling : Yes Display Question Number : Yes
Single Line Question Option : No Option Orientation : Vertical

Correct Marks : 1 Wrong Marks : 0.25

दो जहाज S और R एक ही बंदरगाह से रवाना होते हैं। जहाज S 50 मील पूर्व की ओर जाता है, फिर यह दाएं मुड़ता है और 75 मील की दूरी तय करता है, यह फिर दाईं ओर मुड़ता है और 25 मील की दूरी तय करता है। इस बीच में जहाज R 125 मील दक्षिण की ओर जाता है, फिर वह बाएं मुड़ता है और 25 मील की दूरी तय करता है, फिर यह दक्षिण की ओर मुड़ता है और 25 मील की दूरी तय करता है। जहाज R के सापेक्ष जहाज S कहाँ है?

Options :

1. ✓ 75 मील उत्तर
2. ✗ 75 मील दक्षिण
3. ✗ 225 मील उत्तर
4. ✗ 225 मील दक्षिण

Question Number : 33 Question Id : 54592713365 Question Type : MCQ Option Shuffling : Yes Display Question Number : Yes
Single Line Question Option : No Option Orientation : Vertical

Correct Marks : 1 Wrong Marks : 0.25

Two tennis players T and U were facing each other. T was facing North-West. U stretched both his arms outwards sideways. In which direction was U's left arm pointing?

Options :

1. ✗ South-East
2. ✓ North-East
3. ✗ South-West
4. ✗ North-West

Question Number : 33 Question Id : 54592713365 Question Type : MCQ Option Shuffling : Yes Display Question Number : Yes
Single Line Question Option : No Option Orientation : Vertical

Correct Marks : 1 Wrong Marks : 0.25

दो टेनिस खिलाड़ी T और U एक दूसरे का सामना कर रहे थे। T का मुंह उत्तर-पश्चिम की ओर था। U ने अपने दोनों हाथ बाहर की ओर फैलाए। U का बायाँ हाथ किस दिशा में था?

Options :

1. ✗ दक्षिण-पूर्व
2. ✓ उत्तर-पूर्व
3. ✗ दक्षिण-पश्चिम
4. ✗ उत्तर-पश्चिम

Question Number : 34 Question Id : 54592713366 Question Type : MCQ Option Shuffling : Yes Display Question Number : Yes
Single Line Question Option : No Option Orientation : Vertical

Correct Marks : 1 Wrong Marks : 0.25

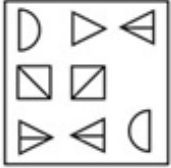
Out of the four options three are similar in a certain way and one is different. Find the option which is different.

Options :

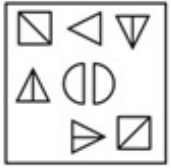
1. ✖



2. ✖



3. ✖



4. ✔



Question Number : 34 Question Id : 54592713366 Question Type : MCQ Option Shuffling : Yes Display Question Number : Yes
Single Line Question Option : No Option Orientation : Vertical

Correct Marks : 1 Wrong Marks : 0.25

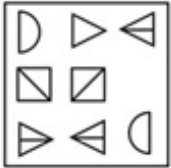
चार विकल्पों में से तीन एक निश्चित तरीके से समान हैं और एक अलग है। वह विकल्प को ज्ञात करें जो अलग है।

Options :

1. ✖



2. ✖



3. ✖



4. ✓



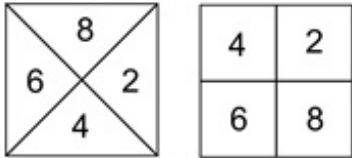
Question Number : 35 Question Id : 54592713367 Question Type : MCQ Option Shuffling : Yes Display Question Number : Yes
Single Line Question Option : No Option Orientation : Vertical

Correct Marks : 1 Wrong Marks : 0.25

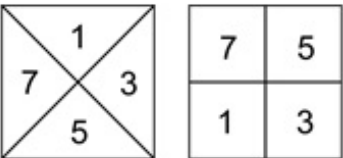
Four pairs of figures are given. Three pairs are similar in a certain way and one is different. Find the pair of figure which is different.

Options :

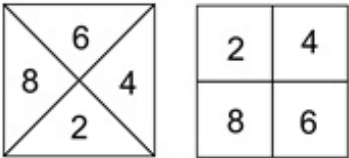
1. ✗



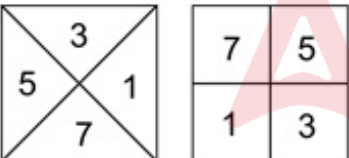
2. ✗



3. ✗



4. ✓



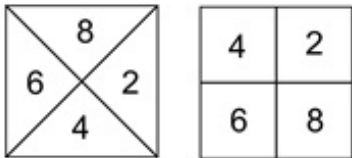
Question Number : 35 Question Id : 54592713367 Question Type : MCQ Option Shuffling : Yes Display Question Number : Yes
Single Line Question Option : No Option Orientation : Vertical

Correct Marks : 1 Wrong Marks : 0.25

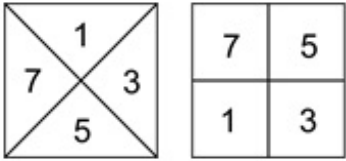
चार जोड़ी आकृतियां दी गई हैं। तीन जोड़े एक निश्चित तरीके से समान हैं और एक अलग है। उस जोड़ी को ज्ञात करें जो अलग है।

Options :

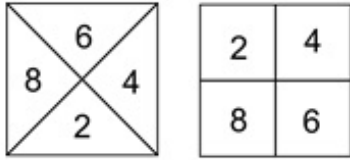
1. ✗



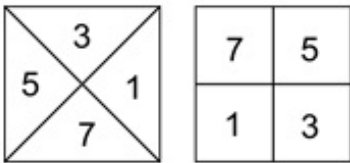
2. ✖



3. ✖



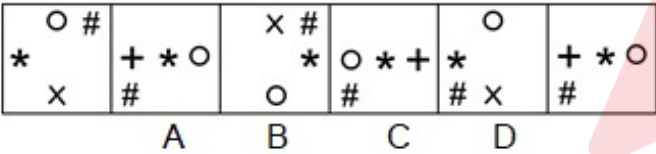
4. ✔



Question Number : 36 Question Id : 54592713368 Question Type : MCQ Option Shuffling : Yes Display Question Number : Yes
Single Line Question Option : No Option Orientation : Vertical

Correct Marks : 1 Wrong Marks : 0.25

A figure series of 6 parts is given. Out of these, 4 parts are labelled A,B, C and D. One of these 4 parts is incorrect. Find the incorrect part.

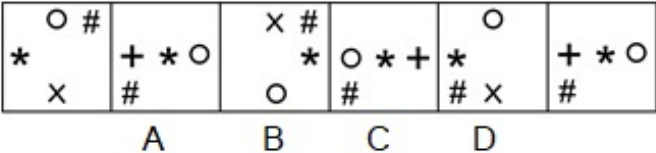


Options :
1. ✖ A
2. ✖ B
3. ✖ C
4. ✔ D

Question Number : 36 Question Id : 54592713368 Question Type : MCQ Option Shuffling : Yes Display Question Number : Yes
Single Line Question Option : No Option Orientation : Vertical

Correct Marks : 1 Wrong Marks : 0.25

6 भागों की एक आकृति श्रृंखला दी गई है। इन 6 भागों में से 4 को A , B , C और D ऐसे लेबल किया गया है और इन 4 भागों में से एक गलत है। गलत भाग को ज्ञात करें।



Options :
1. ✖ A
2. ✖ B
3. ✖ C
4. ✔ D

Question Number : 37 Question Id : 54592713369 Question Type : MCQ Option Shuffling : Yes Display Question Number : Yes
Single Line Question Option : No Option Orientation : Vertical

Correct Marks : 1 Wrong Marks : 0.25

If a cube is painted red on all sides and if it is cut into 64 smaller cubes then how many such cubes will have more than two sides painted red?

Options :

1. ✖ 8
2. ✖ 12
3. ✔ 24
4. ✖ 16

Question Number : 37 Question Id : 54592713369 Question Type : MCQ Option Shuffling : Yes Display Question Number : Yes
Single Line Question Option : No Option Orientation : Vertical

Correct Marks : 1 Wrong Marks : 0.25

यदि एक घन को सभी तरफ से लाल रंग में रंगा गया है और यदि इसे 64 छोटे घनों में काटा जाता है, तो ऐसे कितने घन होंगे जिसमें दो से अधिक लाल रंग वाली साइड होंगी?

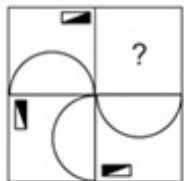
Options :

1. ✖ 8
2. ✖ 12
3. ✔ 24
4. ✖ 16

Question Number : 38 Question Id : 54592713370 Question Type : MCQ Option Shuffling : Yes Display Question Number : Yes
Single Line Question Option : No Option Orientation : Vertical

Correct Marks : 1 Wrong Marks : 0.25

Which of the following answer figure completes the pattern shown in the question figure?



Options :



3. ✖



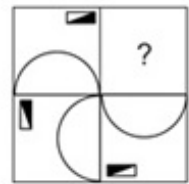
4. ✖



Question Number : 38 Question Id : 54592713370 Question Type : MCQ Option Shuffling : Yes Display Question Number : Yes
Single Line Question Option : No Option Orientation : Vertical

Correct Marks : 1 Wrong Marks : 0.25

निम्नलिखित में से कौन सी उत्तर आकृति, प्रश्न आकृति में दर्शाए गए पैटर्न को पूरा करती है?



Options :

1. ✖



2. ✔



3. ✖



4. ✖



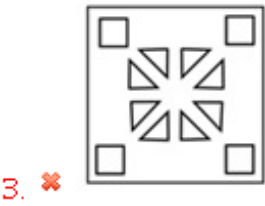
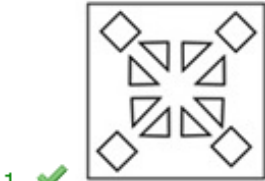
Question Number : 39 Question Id : 54592713371 Question Type : MCQ Option Shuffling : Yes Display Question Number : Yes
Single Line Question Option : No Option Orientation : Vertical

Correct Marks : 1 Wrong Marks : 0.25

A piece of paper is folded and punched as shown below in the question figures. From the given answer figures, indicate how it will appear when opened.



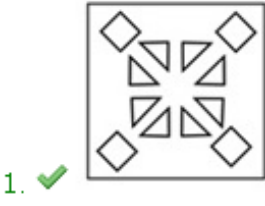
Options :



Question Number : 39 Question Id : 54592713371 Question Type : MCQ Option Shuffling : Yes Display Question Number : Yes
Single Line Question Option : No Option Orientation : Vertical
Correct Marks : 1 Wrong Marks : 0.25
प्रश्न आकृति में नीचे दिखाए गए अनुसार पेपर के टुकड़े को मोड़कर उसमें छेद किए गए हैं। दी गई उत्तर आकृतियों से, इंगित करें कि इसे खोले जाने पर यह कैसा दिखाई देगा।




Options :



2. ✖



3. ✖



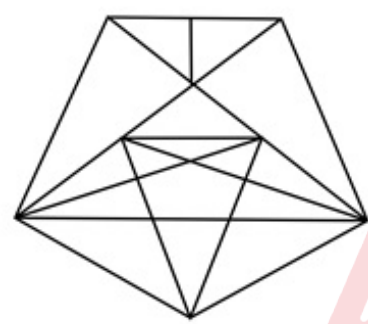
4. ✖



Question Number : 40 Question Id : 54592713372 Question Type : MCQ Option Shuffling : Yes Display Question Number : Yes
Single Line Question Option : No Option Orientation : Vertical

Correct Marks : 1 Wrong Marks : 0.25

What is the minimum number of straight lines required to draw the given figure?



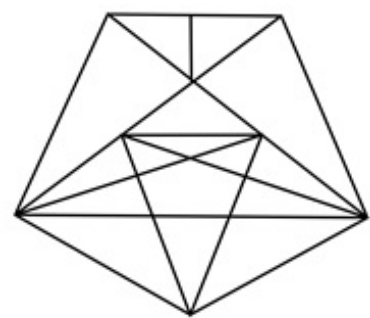
Options :

- 1. ✖ 13
- 2. ✔ 14
- 3. ✖ 11
- 4. ✖ 12

Question Number : 40 Question Id : 54592713372 Question Type : MCQ Option Shuffling : Yes Display Question Number : Yes
Single Line Question Option : No Option Orientation : Vertical

Correct Marks : 1 Wrong Marks : 0.25

दी गई आकृति को बनाने के लिए आवश्यक सीधी रेखाओं की न्यूनतम संख्या क्या है?



- Options :
- 1. ✖ 13
 - 2. ✔ 14
 - 3. ✖ 11
 - 4. ✖ 12

General Awareness1	
Group Number :	3
Group Id :	545927663
Group Maximum Duration :	0
Group Minimum Duration :	0
Revisit allowed for view? :	No
Revisit allowed for edit? :	No
Break time:	0
Group Marks:	20
Revisit allowed for group Instructions? :	Yes
Maximum Instruction Time:	0
Minimum Instruction Time:	0

General Awareness1	
Section Id :	545927663
Section Number :	1
Section type :	Online
Mandatory or Optional:	Mandatory
Number of Questions:	20
Number of Questions to be attempted:	20
Section Marks:	20
Display Number Panel:	Yes
Group All Questions:	No

Sub-Section Number:	1
Sub-Section Id:	545927795
Question Shuffling Allowed :	Yes

In which of the following dance forms, the dancers throw coconuts up in the air and break them open using their head?

Options :

1. ✓ Siddi Dhamal
2. ✗ Bhavai Dance
3. ✗ Teratali
4. ✗ Ghoomar

Question Number : 41 Question Id : 54592713373 Question Type : MCQ Option Shuffling : Yes Display Question Number : Yes
Single Line Question Option : No Option Orientation : Vertical

Correct Marks : 1 Wrong Marks : 0.25

निम्नलिखित में से किस नृत्य में, नर्तक हवा में नारियल फेंकते हैं और उन्हें अपने सिर का उपयोग करके फोड़ते हैं?

Options :

1. ✓ सिद्दी धमाल
2. ✗ भवई नृत्य
3. ✗ तेराताली
4. ✗ घूमर

Question Number : 42 Question Id : 54592713374 Question Type : MCQ Option Shuffling : Yes Display Question Number : Yes
Single Line Question Option : No Option Orientation : Vertical

Correct Marks : 1 Wrong Marks : 0.25

Deknni is a famous folk music of _____.

Options :

1. ✗ Karnataka
2. ✗ Gujarat
3. ✓ Goa
4. ✗ Kerala

Question Number : 42 Question Id : 54592713374 Question Type : MCQ Option Shuffling : Yes Display Question Number : Yes
Single Line Question Option : No Option Orientation : Vertical

Correct Marks : 1 Wrong Marks : 0.25

डेक्नी _____ का प्रसिद्ध लोक संगीत है।

Options :

1. ✗ कर्नाटक
2. ✗ गुजरात
3. ✓ गोवा
4. ✗ केरल

Question Number : 43 Question Id : 54592713375 Question Type : MCQ Option Shuffling : Yes Display Question Number : Yes
Single Line Question Option : No Option Orientation : Vertical

Correct Marks : 1 Wrong Marks : 0.25

The fourth day of the Pongal festival is called _____.

Options :

1. ✗ Bhogi Pongal
2. ✗ Thai Pongal
3. ✗ Maatu Pongal
4. ✓ Kaanum Pongal

Question Number : 43 Question Id : 54592713375 Question Type : MCQ Option Shuffling : Yes Display Question Number : Yes
Single Line Question Option : No Option Orientation : Vertical

Correct Marks : 1 Wrong Marks : 0.25

पोंगल त्यौहार के चौथे दिन को _____ कहा जाता है।

Options :

1. ✖ भोगी पोंगल
2. ✖ थाई पोंगल
3. ✖ मट्ट पोंगल
4. ✔ कानुम पोंगल

Question Number : 44 Question Id : 54592713376 Question Type : MCQ Option Shuffling : Yes Display Question Number : Yes
Single Line Question Option : No Option Orientation : Vertical

Correct Marks : 1 Wrong Marks : 0.25

Which among the following temples was not built by Narasimha II?

Options :

1. ✖ Shore Temple
2. ✖ Kailashanatha Temple
3. ✖ Vaikuntha Perumal Temple
4. ✔ Virupaksha Temple

Question Number : 44 Question Id : 54592713376 Question Type : MCQ Option Shuffling : Yes Display Question Number : Yes
Single Line Question Option : No Option Orientation : Vertical

Correct Marks : 1 Wrong Marks : 0.25

निम्नलिखित में से कौनसा मंदिर नरसिम्हा II द्वारा नहीं बनाया गया था?

Options :

1. ✖ तटीय मंदिर (शोर टेम्पल)
2. ✖ कैलाशनाथ मंदिर
3. ✖ वैकुंठ पेरुमल मंदिर
4. ✔ विरुपाक्ष मंदिर

Question Number : 45 Question Id : 54592713377 Question Type : MCQ Option Shuffling : Yes Display Question Number : Yes
Single Line Question Option : No Option Orientation : Vertical

Correct Marks : 1 Wrong Marks : 0.25

_____ is the rate at which Reserve Bank of India borrows funds from all the other commercial banks in the country.

Options :

1. ✖ Repo rate
2. ✔ Reverse Repo rate
3. ✖ Bank rate
4. ✖ Liquidity rate

Question Number : 45 Question Id : 54592713377 Question Type : MCQ Option Shuffling : Yes Display Question Number : Yes
Single Line Question Option : No Option Orientation : Vertical

Correct Marks : 1 Wrong Marks : 0.25

_____ वह दर है जिस पर भारतीय रिजर्व बैंक देश में अन्य सभी वाणिज्यिक बैंकों से धन उधार लेता है।

Options :

1. ✖ रेपो दर
2. ✔ रिवर्स रेपो दर
3. ✖ बैंक दर

4. ✖ तरलता दर

Question Number : 46 Question Id : 54592713378 Question Type : MCQ Option Shuffling : Yes Display Question Number : Yes
Single Line Question Option : No Option Orientation : Vertical

Correct Marks : 1 Wrong Marks : 0.25

Economic Survey of 2019 outlines the blueprint to achieve Prime Minister Narendra Modi's vision of USD
----- trillion Economy.

Options :

1. ✖ 4
2. ✔ 5
3. ✖ 8
4. ✖ 10

Question Number : 46 Question Id : 54592713378 Question Type : MCQ Option Shuffling : Yes Display Question Number : Yes
Single Line Question Option : No Option Orientation : Vertical

Correct Marks : 1 Wrong Marks : 0.25

2019 के आर्थिक सर्वेक्षण में प्रधानमंत्री नरेंद्र मोदी के USD ----- ट्रिलियन अर्थव्यवस्था वाले दृष्टिकोण को प्राप्त करने के लिए ब्लूप्रिंट को रेखांकित किया गया है।

Options :

1. ✖ 4
2. ✔ 5
3. ✖ 8
4. ✖ 10

Question Number : 47 Question Id : 54592713379 Question Type : MCQ Option Shuffling : Yes Display Question Number : Yes
Single Line Question Option : No Option Orientation : Vertical

Correct Marks : 1 Wrong Marks : 0.25

As announced in the Budget 2019, ----- were allocated for Pradhan Mantri Gram Sadak Yojana for construction of more rural roads.

Options :

1. ✖ Rs. 10000 crore
2. ✖ Rs. 12000 crore
3. ✖ Rs. 15000 crore
4. ✔ Rs. 19000 crore

Question Number : 47 Question Id : 54592713379 Question Type : MCQ Option Shuffling : Yes Display Question Number : Yes
Single Line Question Option : No Option Orientation : Vertical

Correct Marks : 1 Wrong Marks : 0.25

बजट 2019 की घोषणा के अनुसार, अधिक ग्रामीण सड़कों के निर्माण के लिए प्रधानमंत्री ग्राम सड़क योजना के लिए ----- को आवंटित किया गया था।

Options :

1. ✖ 10000 करोड़ रुपए
2. ✖ 12000 करोड़ रुपए
3. ✖ 15000 करोड़ रुपए
4. ✔ 19000 करोड़ रुपए

Question Number : 48 Question Id : 54592713380 Question Type : MCQ Option Shuffling : Yes Display Question Number : Yes
Single Line Question Option : No Option Orientation : Vertical

Correct Marks : 1 Wrong Marks : 0.25

----- is used for measuring wind force.

Options :

1. ✖ Hygrometer
2. ✔ Anemometer
3. ✖ Salinometer
4. ✖ Bolometer

Question Number : 48 Question Id : 54592713380 Question Type : MCQ Option Shuffling : Yes Display Question Number : Yes
Single Line Question Option : No Option Orientation : Vertical

Correct Marks : 1 Wrong Marks : 0.25

_____ का उपयोग वायु दाब को मापने के लिए किया जाता है।

Options :

1. ✖ हाइग्रोमीटर
2. ✔ एनीमोमीटर
3. ✖ सलिनोमीटर
4. ✖ बोलोमीटर

Question Number : 49 Question Id : 54592713381 Question Type : MCQ Option Shuffling : Yes Display Question Number : Yes
Single Line Question Option : No Option Orientation : Vertical

Correct Marks : 1 Wrong Marks : 0.25

_____ is chiefly found in Vinegar.

Options :

1. ✖ Lactic acid
2. ✖ Citric acid
3. ✖ Malic acid
4. ✔ Acetic acid

Question Number : 49 Question Id : 54592713381 Question Type : MCQ Option Shuffling : Yes Display Question Number : Yes
Single Line Question Option : No Option Orientation : Vertical

Correct Marks : 1 Wrong Marks : 0.25

सिरका में _____ मुख्य रूप से पाया जाता है।

Options :

1. ✖ लैक्टिक अम्ल
2. ✖ साइट्रिक अम्ल
3. ✖ मैलिक एसिड
4. ✔ एसिटिक एसिड

Question Number : 50 Question Id : 54592713382 Question Type : MCQ Option Shuffling : Yes Display Question Number : Yes
Single Line Question Option : No Option Orientation : Vertical

Correct Marks : 1 Wrong Marks : 0.25

Which among the following is the second largest phylum?

Options :

1. ✖ Chordata
2. ✖ Echinodermata
3. ✖ Arthropoda
4. ✔ Mollusca

Question Number : 50 Question Id : 54592713382 Question Type : MCQ Option Shuffling : Yes Display Question Number : Yes
Single Line Question Option : No Option Orientation : Vertical

Correct Marks : 1 Wrong Marks : 0.25

निम्नलिखित में से कौन सा दूसरा सबसे बड़ा संघ है?

Options :

1. ✖ कशेरुकी
2. ✖ इकाइनोडर्मेटा
3. ✖ सन्धिपाद
4. ✔ मोलस्का

Question Number : 51 Question Id : 54592713383 Question Type : MCQ Option Shuffling : Yes Display Question Number : Yes
Single Line Question Option : No Option Orientation : Vertical

Correct Marks : 1 Wrong Marks : 0.25

Asexual reproduction in algae is by the production of different types of spores, the most common being the -----

Options :

1. ✖ oogamous
2. ✖ anisogamous
3. ✖ isogamous
4. ✔ zoospores

Question Number : 51 Question Id : 54592713383 Question Type : MCQ Option Shuffling : Yes Display Question Number : Yes
Single Line Question Option : No Option Orientation : Vertical

Correct Marks : 1 Wrong Marks : 0.25

शैवाल में अलैंगिक प्रजनन विभिन्न प्रकार के बीजाणुओं के उत्पादन से होता है। इनमें से सबसे आम बीजाणु ----- है।

Options :

1. ✖ ऊर्गैमस
2. ✖ अनाइसोर्गैमस
3. ✖ आइसोर्गैमस
4. ✔ ज़ूस्पोर्स

Question Number : 52 Question Id : 54592713384 Question Type : MCQ Option Shuffling : Yes Display Question Number : Yes
Single Line Question Option : No Option Orientation : Vertical

Correct Marks : 1 Wrong Marks : 0.25

Which among the following is a non-renewable resource?

Options :

1. ✖ geothermal
2. ✖ wind
3. ✖ biomass
4. ✔ natural gas

Question Number : 52 Question Id : 54592713384 Question Type : MCQ Option Shuffling : Yes Display Question Number : Yes
Single Line Question Option : No Option Orientation : Vertical

Correct Marks : 1 Wrong Marks : 0.25

निम्नलिखित में से कौन सा एक अनवीकरणीय संसाधन है?

Options :

1. ✖ भू-तापीय
2. ✖ हवा
3. ✖ जैवभार
4. ✔ प्राकृतिक गैस

Question Number : 53 Question Id : 54592713385 Question Type : MCQ Option Shuffling : Yes Display Question Number : Yes
Single Line Question Option : No Option Orientation : Vertical

Correct Marks : 1 Wrong Marks : 0.25

_____ won the title of the 'Cleanest Medium City' in the Swachh Survekshan Awards 2019.

Options :

1. ✓ Ujjain
2. ✗ Mysore
3. ✗ Kolkata
4. ✗ Surat

Question Number : 53 Question Id : 54592713385 Question Type : MCQ Option Shuffling : Yes Display Question Number : Yes
Single Line Question Option : No Option Orientation : Vertical

Correct Marks : 1 Wrong Marks : 0.25

_____ ने स्वच्छ सर्वेक्षण पुरस्कार 2019 में 'सबसे साफ मध्यम शहर' का खिताब जीता।

Options :

1. ✓ उज्जैन
2. ✗ मैसूर
3. ✗ कोलकाता
4. ✗ सूरत

Question Number : 54 Question Id : 54592713386 Question Type : MCQ Option Shuffling : Yes Display Question Number : Yes
Single Line Question Option : No Option Orientation : Vertical

Correct Marks : 1 Wrong Marks : 0.25

Which among the following is not a water-borne disease?

Options :

1. ✗ Polio
2. ✗ Malaria
3. ✓ AIDS
4. ✗ Typhoid

Question Number : 54 Question Id : 54592713386 Question Type : MCQ Option Shuffling : Yes Display Question Number : Yes
Single Line Question Option : No Option Orientation : Vertical

Correct Marks : 1 Wrong Marks : 0.25

निम्नलिखित में से कौन सा जल-जनित रोग नहीं है?

Options :

1. ✗ पोलियो
2. ✗ मलेरिया
3. ✓ एड्स
4. ✗ आंत्र ज्वर

Question Number : 55 Question Id : 54592713387 Question Type : MCQ Option Shuffling : Yes Display Question Number : Yes
Single Line Question Option : No Option Orientation : Vertical

Correct Marks : 1 Wrong Marks : 0.25

Rickets is caused due to the deficiency of _____.

Options :

1. ✗ Vitamin E
2. ✓ Vitamin D
3. ✗ Vitamin K

4. ✖ Vitamin B

Question Number : 55 Question Id : 54592713387 Question Type : MCQ Option Shuffling : Yes Display Question Number : Yes
Single Line Question Option : No Option Orientation : Vertical

Correct Marks : 1 Wrong Marks : 0.25

सूखा रोग _____ की कमी के कारण होता है।

Options :

1. ✖ विटामिन E
2. ✔ विटामिन D
3. ✖ विटामिन K
4. ✖ विटामिन B

Question Number : 56 Question Id : 54592713388 Question Type : MCQ Option Shuffling : Yes Display Question Number : Yes
Single Line Question Option : No Option Orientation : Vertical

Correct Marks : 1 Wrong Marks : 0.25

Koyna river rises near Mahabaleshwar in the _____.

Options :

1. ✖ Eastern Ghats
2. ✔ Western Ghats
3. ✖ Aravalli range
4. ✖ Karakoram range

Question Number : 56 Question Id : 54592713388 Question Type : MCQ Option Shuffling : Yes Display Question Number : Yes
Single Line Question Option : No Option Orientation : Vertical

Correct Marks : 1 Wrong Marks : 0.25

महाबलेश्वर के पास _____ में कोयना नदी का उद्गार होता है।

Options :

1. ✖ पूर्वी घाट
2. ✔ पश्चिमी घाट
3. ✖ अरावली पर्वत श्रेणी
4. ✖ काराकोरम पर्वत श्रेणी

Question Number : 57 Question Id : 54592713389 Question Type : MCQ Option Shuffling : Yes Display Question Number : Yes
Single Line Question Option : No Option Orientation : Vertical

Correct Marks : 1 Wrong Marks : 0.25

The lowest point of Indian Ocean is _____.

Options :

1. ✔ Java Trench
2. ✖ Mariana Trench
3. ✖ Japan Trench
4. ✖ Tonga Trench

Question Number : 57 Question Id : 54592713389 Question Type : MCQ Option Shuffling : Yes Display Question Number : Yes
Single Line Question Option : No Option Orientation : Vertical

Correct Marks : 1 Wrong Marks : 0.25

हिंद महासागर का सबसे निचला बिंदु _____ है।

Options :

1. ✔ जावा खाई (ट्रेंच)
2. ✖ मारियाना खाई (ट्रेंच)

3. ✖ जापान खाई (ट्रेंच)
4. ✖ रोंगा खाई (ट्रेंच)

Question Number : 58 Question Id : 54592713390 Question Type : MCQ Option Shuffling : Yes Display Question Number : Yes
Single Line Question Option : No Option Orientation : Vertical

Correct Marks : 1 Wrong Marks : 0.25

Amarkantak is the tallest peak of _____.

Options :

1. ✖ Himalayan Range
2. ✖ Karakoram Range
3. ✖ Purvanchal Range
4. ✔ Vindhya Range

Question Number : 58 Question Id : 54592713390 Question Type : MCQ Option Shuffling : Yes Display Question Number : Yes
Single Line Question Option : No Option Orientation : Vertical

Correct Marks : 1 Wrong Marks : 0.25

अमरकंटक _____ की सबसे ऊँची चोटी है।

Options :

1. ✖ हिमालय रेंज
2. ✖ काराकोरम रेंज
3. ✖ पूर्वांचल रेंज
4. ✔ विंध्य रेंज

Question Number : 59 Question Id : 54592713391 Question Type : MCQ Option Shuffling : Yes Display Question Number : Yes
Single Line Question Option : No Option Orientation : Vertical

Correct Marks : 1 Wrong Marks : 0.25

Which soil is formed as a result of high leaching?

Options :

1. ✖ Black Soil
2. ✖ Red Soil
3. ✖ Alluvial Soil
4. ✔ Laterite Soil

Question Number : 59 Question Id : 54592713391 Question Type : MCQ Option Shuffling : Yes Display Question Number : Yes
Single Line Question Option : No Option Orientation : Vertical

Correct Marks : 1 Wrong Marks : 0.25

उच्च लीचिंग के परिणामस्वरूप किस मृदा का निर्माण होता है?

Options :

1. ✖ काली मृदा
2. ✖ लाल मृदा
3. ✖ एल्यूवियल मृदा (जलोढ़ मिट्टी)
4. ✔ लैटेराइट मृदा

Question Number : 60 Question Id : 54592713392 Question Type : MCQ Option Shuffling : Yes Display Question Number : Yes
Single Line Question Option : No Option Orientation : Vertical

Correct Marks : 1 Wrong Marks : 0.25

India has the _____ largest international border in the world.

Options :

1. ✖ fourth

- 2. ✖ second
- 3. ✔ third
- 4. ✖ fifth

Question Number : 60 Question Id : 54592713392 Question Type : MCQ Option Shuffling : Yes Display Question Number : Yes
Single Line Question Option : No Option Orientation : Vertical
Correct Marks : 1 Wrong Marks : 0.25
भारत की सीमा विश्व की __ नंबर की सबसे बड़ी आंतरराष्ट्रीय सीमा है
Options :
1. ✖ चौथे
2. ✖ दूसरे
3. ✔ तीसरे
4. ✖ पांचवे

General Awareness2	
Group Number :	4
Group Id :	545927664
Group Maximum Duration :	0
Group Minimum Duration :	0
Revisit allowed for view? :	No
Revisit allowed for edit? :	No
Break time:	0
Group Marks:	20
Revisit allowed for group Instructions? :	Yes
Maximum Instruction Time:	0
Minimum Instruction Time:	0

General Awareness2	
Section Id :	545927664
Section Number :	1
Section type :	Online
Mandatory or Optional:	Mandatory
Number of Questions:	20
Number of Questions to be attempted:	20
Section Marks:	20
Display Number Panel:	Yes
Group All Questions:	No

Sub-Section Number:	1
Sub-Section Id:	545927796
Question Shuffling Allowed :	Yes

Question Number : 61 Question Id : 54592713393 Question Type : MCQ Option Shuffling : Yes Display Question Number : Yes
Single Line Question Option : No Option Orientation : Vertical
Correct Marks : 1 Wrong Marks : 0.25
The zaid is the _____ crop season.
Options :

1. ❌ winter
2. ❌ autumn
3. ✅ summer
4. ❌ spring

Question Number : 61 Question Id : 54592713393 Question Type : MCQ Option Shuffling : Yes Display Question Number : Yes
Single Line Question Option : No Option Orientation : Vertical

Correct Marks : 1 Wrong Marks : 0.25

जैद _____ फसल का मौसम है।

Options :

1. ❌ सर्दी
2. ❌ पतझड़
3. ✅ गर्मी
4. ❌ वसंत

Question Number : 62 Question Id : 54592713394 Question Type : MCQ Option Shuffling : Yes Display Question Number : Yes
Single Line Question Option : No Option Orientation : Vertical

Correct Marks : 1 Wrong Marks : 0.25

Who among the following is not an Extremist leader?

Options :

1. ❌ Lala Lajpat Rai
2. ❌ Bal Gangadhar Tilak
3. ❌ Aurobindo Ghosh
4. ✅ Gopal Krishna Gokhale

Question Number : 62 Question Id : 54592713394 Question Type : MCQ Option Shuffling : Yes Display Question Number : Yes
Single Line Question Option : No Option Orientation : Vertical

Correct Marks : 1 Wrong Marks : 0.25

निम्नलिखित में से कौन चरमपंथी नेता नहीं है?

Options :

1. ❌ लाला लाजपत राय
2. ❌ बाल गंगाधर तिलक
3. ❌ अरविन्द घोष
4. ✅ गोपाल कृष्ण गोखले

Question Number : 63 Question Id : 54592713395 Question Type : MCQ Option Shuffling : Yes Display Question Number : Yes
Single Line Question Option : No Option Orientation : Vertical

Correct Marks : 1 Wrong Marks : 0.25

On 23rd March, 1931 Bhagat Singh, Rajguru and Sukhdev were hanged to death with _____.

Options :

1. ❌ Jallianwala Bagh Massacre
2. ❌ Kakori Train Dacoity
3. ✅ Lahore Conspiracy Case
4. ❌ Dandi March

Question Number : 63 Question Id : 54592713395 Question Type : MCQ Option Shuffling : Yes Display Question Number : Yes
Single Line Question Option : No Option Orientation : Vertical

Correct Marks : 1 Wrong Marks : 0.25

23 मार्च, 1931 को भगत सिंह, राजगुरु और सुखदेव को _____ के मामले में फांसी पर लटका दिया गया था।

Options :

1. ✖ जलियाँवाला बाग हत्याकांड
2. ✖ काकोरी ट्रेन डकैती
3. ✔ लाहौर षड़यंत्र केस
4. ✖ दांडी मार्च

Question Number : 64 Question Id : 54592713396 Question Type : MCQ Option Shuffling : Yes Display Question Number : Yes
Single Line Question Option : No Option Orientation : Vertical

Correct Marks : 1 Wrong Marks : 0.25

Which veda is a collection of sacrificial formulae?

Options :

1. ✖ Atharvaveda
2. ✖ Samaveda
3. ✖ Rigveda
4. ✔ Yajurveda

Question Number : 64 Question Id : 54592713396 Question Type : MCQ Option Shuffling : Yes Display Question Number : Yes
Single Line Question Option : No Option Orientation : Vertical

Correct Marks : 1 Wrong Marks : 0.25

कौन सा वेद यज्ञ सम्बन्धी सूत्रों का संग्रह है?

Options :

1. ✖ अथर्ववेद
2. ✖ सामवेद
3. ✖ ऋग्वेद
4. ✔ यजुर्वेद

Question Number : 65 Question Id : 54592713397 Question Type : MCQ Option Shuffling : Yes Display Question Number : Yes
Single Line Question Option : No Option Orientation : Vertical

Correct Marks : 1 Wrong Marks : 0.25

Who was the revenue minister of Sher Shah Suri?

Options :

1. ✖ Faizi
2. ✔ Todar Mal
3. ✖ Tansen
4. ✖ Abul Fazi

Question Number : 65 Question Id : 54592713397 Question Type : MCQ Option Shuffling : Yes Display Question Number : Yes
Single Line Question Option : No Option Orientation : Vertical

Correct Marks : 1 Wrong Marks : 0.25

शेर शाह सूरी के राजस्व मंत्री कौन थे?

Options :

1. ✖ फैज़ी
2. ✔ टोडरमल
3. ✖ तानसेन
4. ✖ अबुल फैज़ी

Question Number : 66 Question Id : 54592713398 Question Type : MCQ Option Shuffling : Yes Display Question Number : Yes
Single Line Question Option : No Option Orientation : Vertical

Correct Marks : 1 Wrong Marks : 0.25

Who built Ibadat Khana (Hall of Prayer) at Fatehpur Sikri?

Options :

1. ✓ Akbar
2. ✗ Humayun
3. ✗ Babur
4. ✗ Jahangir

Question Number : 66 Question Id : 54592713398 Question Type : MCQ Option Shuffling : Yes Display Question Number : Yes
Single Line Question Option : No Option Orientation : Vertical

Correct Marks : 1 Wrong Marks : 0.25

फ़तेहपुर सीकरी में इबादत खाना (प्रार्थना का हॉल) किसने बनवाया था?

Options :

1. ✓ अकबर
2. ✗ हुमायूँ
3. ✗ बाबर
4. ✗ जहाँगीर

Question Number : 67 Question Id : 54592713399 Question Type : MCQ Option Shuffling : Yes Display Question Number : Yes
Single Line Question Option : No Option Orientation : Vertical

Correct Marks : 1 Wrong Marks : 0.25

Who established Zanjir-e-Adal at Agra Fort for the seeker of royal justice?

Options :

1. ✗ Akbar
2. ✗ Humayun
3. ✗ Babur
4. ✓ Jahangir

Question Number : 67 Question Id : 54592713399 Question Type : MCQ Option Shuffling : Yes Display Question Number : Yes
Single Line Question Option : No Option Orientation : Vertical

Correct Marks : 1 Wrong Marks : 0.25

शाही न्याय के साधक के लिए आगरा किले में जंजीर-ए-अदल की स्थापना किसने की?

Options :

1. ✗ अकबर
2. ✗ हुमायूँ
3. ✗ बाबर
4. ✓ जहाँगीर

Question Number : 68 Question Id : 54592713400 Question Type : MCQ Option Shuffling : Yes Display Question Number : Yes
Single Line Question Option : No Option Orientation : Vertical

Correct Marks : 1 Wrong Marks : 0.25

Who wrote 'The Glass Palace'?

Options :

1. ✗ Vikram Seth
2. ✓ Armitav Ghosh
3. ✗ Anita Desai
4. ✗ Jhumpa Lahiri

Question Number : 68 Question Id : 54592713400 Question Type : MCQ Option Shuffling : Yes Display Question Number : Yes
Single Line Question Option : No Option Orientation : Vertical

Correct Marks : 1 Wrong Marks : 0.25

'द ग्लास पैलेस' किसने लिखा है?

Options :

1. ✗ विक्रम सेठ
2. ✓ अमिताव घोष
3. ✗ अनीता देसाई
4. ✗ झुम्पा लाहिरी

Question Number : 69 Question Id : 54592713401 Question Type : MCQ Option Shuffling : Yes Display Question Number : Yes
Single Line Question Option : No Option Orientation : Vertical

Correct Marks : 1 Wrong Marks : 0.25

Which among the following books is not written by Salman Rushdie?

Options :

1. ✗ Midnight's Children
2. ✗ Shame
3. ✗ Fury
4. ✓ Broken Republic

Question Number : 69 Question Id : 54592713401 Question Type : MCQ Option Shuffling : Yes Display Question Number : Yes
Single Line Question Option : No Option Orientation : Vertical

Correct Marks : 1 Wrong Marks : 0.25

निम्नलिखित पुस्तकों में से कौन सी पुस्तक सलमान रुश्दी द्वारा नहीं लिखी गई है?

Options :

1. ✗ मिडनाइट्स चिल्ड्रन
2. ✗ शेम
3. ✗ फ्यूरी
4. ✓ ब्रोकेन रिपब्लिक

Question Number : 70 Question Id : 54592713402 Question Type : MCQ Option Shuffling : Yes Display Question Number : Yes
Single Line Question Option : No Option Orientation : Vertical

Correct Marks : 1 Wrong Marks : 0.25

She founded the Missionaries of Charity and Nirmal Hriday a home for the dying destitutes. Who was she?

Options :

1. ✓ Mother Teresa
2. ✗ Sister Nivedita
3. ✗ Indira Gandhi
4. ✗ Annie Besant

Question Number : 70 Question Id : 54592713402 Question Type : MCQ Option Shuffling : Yes Display Question Number : Yes
Single Line Question Option : No Option Orientation : Vertical

Correct Marks : 1 Wrong Marks : 0.25

उन्होंने मिशनरीज़ ऑफ़ चैरिटी और निर्मल हृदय की स्थापना की जो मरने वाले निराश्रितों के लिए एक घर है। वह कौन थी?

Options :

1. ✓ मदर टेरेसा
2. ✗ भगिनी निवेदिता
3. ✗ इंदिरा गांधी
4. ✗ एनी बेसेंट

Question Number : 71 Question Id : 54592713403 Question Type : MCQ Option Shuffling : Yes Display Question Number : Yes
Single Line Question Option : No Option Orientation : Vertical

Correct Marks : 1 Wrong Marks : 0.25

Which among the following organisations does not have it's headquarters in New York?

Options :

1. ✖ United Nations Organisation
2. ✖ United Nations Childrens' Fund
3. ✖ United Nations Population Fund
4. ✔ United Nations Educational Scientific and Cultural Organisation

Question Number : 71 Question Id : 54592713403 Question Type : MCQ Option Shuffling : Yes Display Question Number : Yes
Single Line Question Option : No Option Orientation : Vertical

Correct Marks : 1 Wrong Marks : 0.25

निम्नलिखित संगठनों में से किसका मुख्यालय न्यूयॉर्क में नहीं है?

Options :

1. ✖ संयुक्त राष्ट्र संगठन
2. ✖ संयुक्त राष्ट्र बाल कोष
3. ✖ संयुक्त राष्ट्र जनसंख्या कोष
4. ✔ संयुक्त राष्ट्र शैक्षिक, वैज्ञानिक एवं सांस्कृतिक संगठन

Question Number : 72 Question Id : 54592713404 Question Type : MCQ Option Shuffling : Yes Display Question Number : Yes
Single Line Question Option : No Option Orientation : Vertical

Correct Marks : 1 Wrong Marks : 0.25

Vikram Sarabhai Space Centre, an institution managed by Indian Space Research Organisation, is located at -----

Options :

1. ✖ Ahmedabad
2. ✖ Bengaluru
3. ✖ Gujarat
4. ✔ Thiruvananthapuram

Question Number : 72 Question Id : 54592713404 Question Type : MCQ Option Shuffling : Yes Display Question Number : Yes
Single Line Question Option : No Option Orientation : Vertical

Correct Marks : 1 Wrong Marks : 0.25

विक्रम साराभाई अंतरिक्ष केंद्र, भारतीय अंतरिक्ष अनुसंधान संगठन द्वारा प्रबंधित एक संस्थान, ----- में स्थित है।

Options :

1. ✖ अहमदाबाद
2. ✖ बेंगलुरु
3. ✖ गुजरात
4. ✔ तिरुवनंतपुरम

Question Number : 73 Question Id : 54592713405 Question Type : MCQ Option Shuffling : Yes Display Question Number : Yes
Single Line Question Option : No Option Orientation : Vertical

Correct Marks : 1 Wrong Marks : 0.25

Who was the first hockey player to be awarded the Rajiv Gandhi Khel Award?

Options :

1. ✔ Dhanraj Pillay
2. ✖ Sardar Singh
3. ✖ Manpreet Singh

4. ✖ Dhyan Chand

Question Number : 73 Question Id : 54592713405 Question Type : MCQ Option Shuffling : Yes Display Question Number : Yes
Single Line Question Option : No Option Orientation : Vertical

Correct Marks : 1 Wrong Marks : 0.25

राजीव गांधी खेल पुरस्कार से सम्मानित होने वाले पहले हॉकी खिलाड़ी कौन थे?

Options :

1. ✔ धनराज पिल्लै
2. ✖ सरदार सिंह
3. ✖ मनप्रीत सिंह
4. ✖ ध्यानचंद

Question Number : 74 Question Id : 54592713406 Question Type : MCQ Option Shuffling : Yes Display Question Number : Yes
Single Line Question Option : No Option Orientation : Vertical

Correct Marks : 1 Wrong Marks : 0.25

Which chapter of Part XVII deals with the languages of Union?

Options :

1. ✔ I
2. ✖ II
3. ✖ III
4. ✖ IV

Question Number : 74 Question Id : 54592713406 Question Type : MCQ Option Shuffling : Yes Display Question Number : Yes
Single Line Question Option : No Option Orientation : Vertical

Correct Marks : 1 Wrong Marks : 0.25

भाग XVII का कौन सा अध्याय संघ की भाषाओं से संबंधित है?

Options :

1. ✔ I
2. ✖ II
3. ✖ III
4. ✖ IV

Question Number : 75 Question Id : 54592713407 Question Type : MCQ Option Shuffling : Yes Display Question Number : Yes
Single Line Question Option : No Option Orientation : Vertical

Correct Marks : 1 Wrong Marks : 0.25

Which part of the Indian Constitution deals with the co-operative societies?

Options :

1. ✖ Part VIII
2. ✔ Part IX-B
3. ✖ Part XII
4. ✖ Part VI

Question Number : 75 Question Id : 54592713407 Question Type : MCQ Option Shuffling : Yes Display Question Number : Yes
Single Line Question Option : No Option Orientation : Vertical

Correct Marks : 1 Wrong Marks : 0.25

भारतीय संविधान का कौन सा भाग सहकारी समितियों से संबंधित है?

Options :

1. ✖ भाग VIII
2. ✔ भाग IX-B

3. ✖ भाग XII

4. ✖ भाग VI

Question Number : 76 Question Id : 54592713408 Question Type : MCQ Option Shuffling : Yes Display Question Number : Yes
Single Line Question Option : No Option Orientation : Vertical

Correct Marks : 1 Wrong Marks : 0.25

Which among the following parts of Indian Constitution deals with the Union and its territories?

Options :

1. ✖ Part II

2. ✖ Part IX-B

3. ✔ Part I

4. ✖ Part VIII

Question Number : 76 Question Id : 54592713408 Question Type : MCQ Option Shuffling : Yes Display Question Number : Yes
Single Line Question Option : No Option Orientation : Vertical

Correct Marks : 1 Wrong Marks : 0.25

भारतीय संविधान के निम्नलिखित भागों में से कौन सा भाग संघ और उसके क्षेत्रों से संबंधित है?

Options :

1. ✖ भाग II

2. ✖ भाग IX-B

3. ✔ भाग I

4. ✖ भाग VIII

Question Number : 77 Question Id : 54592713409 Question Type : MCQ Option Shuffling : Yes Display Question Number : Yes
Single Line Question Option : No Option Orientation : Vertical

Correct Marks : 1 Wrong Marks : 0.25

Which amendment added Sindhi as a language in the 8th schedule?

Options :

1. ✖ 14

2. ✔ 21

3. ✖ 28

4. ✖ 44

Question Number : 77 Question Id : 54592713409 Question Type : MCQ Option Shuffling : Yes Display Question Number : Yes
Single Line Question Option : No Option Orientation : Vertical

Correct Marks : 1 Wrong Marks : 0.25

किस संशोधन ने सिंधी को एक भाषा के रूप में 8 वीं अनुसूची में जोड़ा है?

Options :

1. ✖ 14

2. ✔ 21

3. ✖ 28

4. ✖ 44

Question Number : 78 Question Id : 54592713410 Question Type : MCQ Option Shuffling : Yes Display Question Number : Yes
Single Line Question Option : No Option Orientation : Vertical

Correct Marks : 1 Wrong Marks : 0.25

_____ ने 8 बार ओलंपिक खेलों की मेजबानी की है जो किसी भी देश द्वारा उच्चतम है

Options :

1. ✖ इंग्लैंड

2. ✖ ग्रीस
3. ✖ फ्रांस
4. ✔ संयुक्त राज्य अमरीका

Question Number : 78 Question Id : 54592713410 Question Type : MCQ Option Shuffling : Yes Display Question Number : Yes
Single Line Question Option : No Option Orientation : Vertical

Correct Marks : 1 Wrong Marks : 0.25

_____ has hosted the Olympic games 8 times which is highest by any country.

Options :

1. ✖ England
2. ✖ Greece
3. ✖ France
4. ✔ United States of America

Question Number : 79 Question Id : 54592713411 Question Type : MCQ Option Shuffling : Yes Display Question Number : Yes
Single Line Question Option : No Option Orientation : Vertical

Correct Marks : 1 Wrong Marks : 0.25

The 21st Commonwealth games was organised by _____.

Options :

1. ✖ Canada
2. ✔ Australia
3. ✖ Italy
4. ✖ India

Question Number : 79 Question Id : 54592713411 Question Type : MCQ Option Shuffling : Yes Display Question Number : Yes
Single Line Question Option : No Option Orientation : Vertical

Correct Marks : 1 Wrong Marks : 0.25

21 वें राष्ट्रमंडल खेलों का आयोजन _____ द्वारा किया गया था।

Options :

1. ✖ कनाडा
2. ✔ ऑस्ट्रेलिया
3. ✖ इटली
4. ✖ भारत

Question Number : 80 Question Id : 54592713412 Question Type : MCQ Option Shuffling : Yes Display Question Number : Yes
Single Line Question Option : No Option Orientation : Vertical

Correct Marks : 1 Wrong Marks : 0.25

The lowest team score in the World Cup 2019 was scored by _____.

Options :

1. ✔ Pakistan
2. ✖ Afghanistan
3. ✖ Bangladesh
4. ✖ England

Question Number : 80 Question Id : 54592713412 Question Type : MCQ Option Shuffling : Yes Display Question Number : Yes
Single Line Question Option : No Option Orientation : Vertical

Correct Marks : 1 Wrong Marks : 0.25

विश्व कप 2019 में सबसे कम टीम स्कोर _____ द्वारा बनाया गया है।

Options :

- 1. ✓ पाकिस्तान
- 2. ✗ अफ़ग़ानिस्तान
- 3. ✗ बांग्लादेश
- 4. ✗ इंग्लैंड

Arithmetic Ability 1	
Group Number :	5
Group Id :	545927665
Group Maximum Duration :	0
Group Minimum Duration :	0
Revisit allowed for view? :	No
Revisit allowed for edit? :	No
Break time:	0
Group Marks:	20
Revisit allowed for group Instructions? :	Yes
Maximum Instruction Time:	0
Minimum Instruction Time:	0

Arithmetic Ability 1	
Section Id :	545927665
Section Number :	1
Section type :	Online
Mandatory or Optional:	Mandatory
Number of Questions:	20
Number of Questions to be attempted:	20
Section Marks:	20
Display Number Panel:	Yes
Group All Questions:	No
Sub-Section Number:	
1	
Sub-Section Id:	
545927797	
Question Shuffling Allowed :	
Yes	

Question Number : 81 Question Id : 54592713413 Question Type : MCQ Option Shuffling : Yes Display Question Number : Yes
Single Line Question Option : No Option Orientation : Vertical

Correct Marks : 1 Wrong Marks : 0.25

Find the value of $1 \div \{1 \div (a + 1/b)\}$ if $a = 1/2$ and $b = 2$?

Options :

- 1. ✗ -2
- 2. ✗ -1
- 3. ✓ 1
- 4. ✗ 2

Question Number : 81 Question Id : 54592713413 Question Type : MCQ Option Shuffling : Yes Display Question Number : Yes
Single Line Question Option : No Option Orientation : Vertical

Correct Marks : 1 Wrong Marks : 0.25

$1 \div \{1 \div (a + 1/b)\}$ का मूल्य ज्ञात करें, यदि $a = 1/2$ और $b = 2$ है।

Options :

1. ✖ -2
2. ✖ -1
3. ✔ 1
4. ✖ 2

Question Number : 82 Question Id : 54592713414 Question Type : MCQ Option Shuffling : Yes Display Question Number : Yes
Single Line Question Option : No Option Orientation : Vertical

Correct Marks : 1 Wrong Marks : 0.25

Find the HCF of $\frac{1}{256}$ and $\frac{1}{1536}$.

Options :

1. ✖ $\frac{1}{256}$
2. ✖ $\frac{1}{512}$
3. ✖ $\frac{1}{128}$
4. ✔ $\frac{1}{1536}$

Question Number : 82 Question Id : 54592713414 Question Type : MCQ Option Shuffling : Yes Display Question Number : Yes
Single Line Question Option : No Option Orientation : Vertical

Correct Marks : 1 Wrong Marks : 0.25

$\frac{1}{256}$ और $\frac{1}{1536}$ का महत्तम समापवर्तक ज्ञात करें।

Options :

1. ✖ $\frac{1}{256}$
2. ✖ $\frac{1}{512}$
3. ✖ $\frac{1}{128}$
4. ✔ $\frac{1}{1536}$

Question Number : 83 Question Id : 54592713415 Question Type : MCQ Option Shuffling : Yes Display Question Number : Yes
Single Line Question Option : No Option Orientation : Vertical

Correct Marks : 1 Wrong Marks : 0.25

Which of the following numbers is divisible by 8?

Options :

1. ✖ 7538219364
2. ✔ 6342748392
3. ✖ 7354826348
4. ✖ 7345283492

Question Number : 83 Question Id : 54592713415 Question Type : MCQ Option Shuffling : Yes Display Question Number : Yes
Single Line Question Option : No Option Orientation : Vertical

Correct Marks : 1 Wrong Marks : 0.25

निम्नलिखित में से कौन-सी संख्या 8 से विभाज्य है?

Options :

1. ✖ 7538219364
2. ✔ 6342748392
3. ✖ 7354826348
4. ✖ 7345283492

Question Number : 84 Question Id : 54592713416 Question Type : MCQ Option Shuffling : Yes Display Question Number : Yes
Single Line Question Option : No Option Orientation : Vertical

Correct Marks : 1 Wrong Marks : 0.25

Simplify:

$$(7 \times 136 \div 8 + 131) / (628 \div 32 - 4.625) = ?$$

Options :

1. ✗ 30.33
2. ✗ 24.67
3. ✗ 26.33
4. ✓ 16.67

Question Number : 84 Question Id : 54592713416 Question Type : MCQ Option Shuffling : Yes Display Question Number : Yes
Single Line Question Option : No Option Orientation : Vertical

Correct Marks : 1 Wrong Marks : 0.25

सरल करें:

$$(7 \times 136 \div 8 + 131) / (628 \div 32 - 4.625) = ?$$

Options :

1. ✗ 30.33
2. ✗ 24.67
3. ✗ 26.33
4. ✓ 16.67

Question Number : 85 Question Id : 54592713417 Question Type : MCQ Option Shuffling : Yes Display Question Number : Yes
Single Line Question Option : No Option Orientation : Vertical

Correct Marks : 1 Wrong Marks : 0.25

Find the value of:

$$\sqrt{(2 + \sqrt{(41 + \sqrt{(55 + \sqrt{81}))})})} = ?$$

Options :

1. ✗ 1
2. ✗ 2
3. ✓ 3
4. ✗ 4

Question Number : 85 Question Id : 54592713417 Question Type : MCQ Option Shuffling : Yes Display Question Number : Yes
Single Line Question Option : No Option Orientation : Vertical

Correct Marks : 1 Wrong Marks : 0.25

मूल्य ज्ञात करें

$$\sqrt{(2 + \sqrt{(41 + \sqrt{(55 + \sqrt{81}))})})} = ?$$

Options :

1. ✗ 1
2. ✗ 2
3. ✓ 3
4. ✗ 4

Question Number : 86 Question Id : 54592713418 Question Type : MCQ Option Shuffling : Yes Display Question Number : Yes
Single Line Question Option : No Option Orientation : Vertical

Correct Marks : 1 Wrong Marks : 0.25

Convert 654 to Binary?

Options :

1. ✓ 1010001110
2. ✗ 1010100101

3. ✖ 1110001011

4. ✖ 1111100010

Question Number : 86 Question Id : 54592713418 Question Type : MCQ Option Shuffling : Yes Display Question Number : Yes
Single Line Question Option : No Option Orientation : Vertical

Correct Marks : 1 Wrong Marks : 0.25

654 को बाइनरी में बदलें

Options :

1. ✔ 1010001110

2. ✖ 1010100101

3. ✖ 1110001011

4. ✖ 1111100010

Question Number : 87 Question Id : 54592713419 Question Type : MCQ Option Shuffling : Yes Display Question Number : Yes
Single Line Question Option : No Option Orientation : Vertical

Correct Marks : 1 Wrong Marks : 0.25

If $x = 0.06$ and $y = 0.03$, find the value of $(x + y)/(8xy)$?

Options :

1. ✖ 8.5

2. ✖ 9.5

3. ✖ 5.75

4. ✔ 6.25

Question Number : 87 Question Id : 54592713419 Question Type : MCQ Option Shuffling : Yes Display Question Number : Yes
Single Line Question Option : No Option Orientation : Vertical

Correct Marks : 1 Wrong Marks : 0.25

यदि $x = 0.06$ और $y = 0.03$ तो $(x + y)/(8xy)$ का मूल्य ज्ञात करें?

Options :

1. ✖ 8.5

2. ✖ 9.5

3. ✖ 5.75

4. ✔ 6.25

Question Number : 88 Question Id : 54592713420 Question Type : MCQ Option Shuffling : Yes Display Question Number : Yes
Single Line Question Option : No Option Orientation : Vertical

Correct Marks : 1 Wrong Marks : 0.25

What is the value of: $(131 + 262 \times 141 + 141) \div (131 + 141)$?

Note: For this question, discrepancy is found in question/answer. So, this question is ignored for all candidates.

Options :

1. 272

2. 141

3. 131

4. 10

Question Number : 88 Question Id : 54592713420 Question Type : MCQ Option Shuffling : Yes Display Question Number : Yes
Single Line Question Option : No Option Orientation : Vertical

Correct Marks : 1 Wrong Marks : 0.25

$(131 + 262 \times 141 + 141) \div (131 + 141)$, का मूल्य क्या है?

Note: For this question, discrepancy is found in question/answer. So, this question is ignored for all candidates.

Options :

1. 272
2. 141
3. 131
4. 10

Question Number : 89 Question Id : 54592713421 Question Type : MCQ Option Shuffling : Yes Display Question Number : Yes
Single Line Question Option : No Option Orientation : Vertical

Correct Marks : 1 Wrong Marks : 0.25

Convert 273 to binary.

Options :

1. ✓ 100010001
2. ✗ 011111010
3. ✗ 110111010
4. ✗ 010000110

Question Number : 89 Question Id : 54592713421 Question Type : MCQ Option Shuffling : Yes Display Question Number : Yes
Single Line Question Option : No Option Orientation : Vertical

Correct Marks : 1 Wrong Marks : 0.25

273 को बाइनरी में बदलें

Options :

1. ✓ 100010001
2. ✗ 011111010
3. ✗ 110111010
4. ✗ 010000110

Question Number : 90 Question Id : 54592713422 Question Type : MCQ Option Shuffling : Yes Display Question Number : Yes
Single Line Question Option : No Option Orientation : Vertical

Correct Marks : 1 Wrong Marks : 0.25

Find the LCM of $\frac{1}{231}$ and $\frac{1}{67}$?

Note: For this question, discrepancy is found in question/answer. So, this question is ignored for all candidates.

Options :

1. $\frac{1}{15477}$
2. $\frac{1}{46977}$
3. $\frac{1}{20131}$
4. $\frac{1}{67117}$

Question Number : 90 Question Id : 54592713422 Question Type : MCQ Option Shuffling : Yes Display Question Number : Yes
Single Line Question Option : No Option Orientation : Vertical

Correct Marks : 1 Wrong Marks : 0.25

$\frac{1}{231}$ और $\frac{1}{67}$ का लघुत्तम समापवर्क ज्ञात करें

Note: For this question, discrepancy is found in question/answer. So, this question is ignored for all candidates.

Options :

1. $\frac{1}{15477}$
2. $\frac{1}{46977}$
3. $\frac{1}{20131}$

4. 1/67117

Question Number : 91 Question Id : 54592713423 Question Type : MCQ Option Shuffling : Yes Display Question Number : Yes
Single Line Question Option : No Option Orientation : Vertical

Correct Marks : 1 Wrong Marks : 0.25

Bhola sells flowers at Rs. 50 per kg. If he buys 20 kg flowers and his wastage is 10 percent, what profit percent does he earn if his cost price is Rs. 600?

Options :

1. ✖ 60 percent
2. ✔ 50 percent
3. ✖ 40 percent
4. ✖ 30 percent

Question Number : 91 Question Id : 54592713423 Question Type : MCQ Option Shuffling : Yes Display Question Number : Yes
Single Line Question Option : No Option Orientation : Vertical

Correct Marks : 1 Wrong Marks : 0.25

भोला 50 रुपए प्रति किलो फूल बेचता है। यदि वह 20 kg फूल खरीदता है और उसमें 10 प्रतिशत खराब निकल जाता है, यदि उसकी लागत मूल्य 600 रुपए है तो उसने कितने प्रतिशत मुनाफा कमाया?

Options :

1. ✖ 60 प्रतिशत
2. ✔ 50 प्रतिशत
3. ✖ 40 प्रतिशत
4. ✖ 30 प्रतिशत

Question Number : 92 Question Id : 54592713424 Question Type : MCQ Option Shuffling : Yes Display Question Number : Yes
Single Line Question Option : No Option Orientation : Vertical

Correct Marks : 1 Wrong Marks : 0.25

What is the cost of a drum if the selling price is Rs. 5,000 and profit is 10 percent?

Options :

1. ✔ Rs. 4545.45
2. ✖ Rs. 4250
3. ✖ Rs. 4500
4. ✖ Rs. 4750.45

Question Number : 92 Question Id : 54592713424 Question Type : MCQ Option Shuffling : Yes Display Question Number : Yes
Single Line Question Option : No Option Orientation : Vertical

Correct Marks : 1 Wrong Marks : 0.25

यदि एक ड्रम का बिक्री मूल्य 5,000 रुपए और लाभ 10 प्रतिशत है तो उसका वास्तविक मूल्य कितना है?

Options :

1. ✔ 4545.45 रुपए
2. ✖ 4250 रुपए
3. ✖ 4500 रुपए
4. ✖ 4750.45 रुपए

Question Number : 93 Question Id : 54592713425 Question Type : MCQ Option Shuffling : Yes Display Question Number : Yes
Single Line Question Option : No Option Orientation : Vertical

Correct Marks : 1 Wrong Marks : 0.25

Calculate the average perimeter of an equilateral triangle, square and circle having same side/radius as x?

Options :

1. ✖ $4\pi x$

2. ✓ 4.43x
3. ✗ 4x
4. ✗ 4.43πx

Question Number : 93 Question Id : 54592713425 Question Type : MCQ Option Shuffling : Yes Display Question Number : Yes
Single Line Question Option : No Option Orientation : Vertical

Correct Marks : 1 Wrong Marks : 0.25

एक समबाहु त्रिभुज, वर्ग और वृत्त के औसत परिमाण की गणना करें यदि उन सबकी साइड / त्रिज्या समान है जो की x है?

Options :

1. ✗ 4πx
2. ✓ 4.43x
3. ✗ 4x
4. ✗ 4.43πx

Question Number : 94 Question Id : 54592713426 Question Type : MCQ Option Shuffling : Yes Display Question Number : Yes
Single Line Question Option : No Option Orientation : Vertical

Correct Marks : 1 Wrong Marks : 0.25

If a tank is filled with $1/2$ water and $1/4$ oil. what is the percentage of water against the remaining unfilled space of the tank?

Options :

1. ✓ 200 percent
2. ✗ 150 percent
3. ✗ 100 percent
4. ✗ 75 percent

Question Number : 94 Question Id : 54592713426 Question Type : MCQ Option Shuffling : Yes Display Question Number : Yes
Single Line Question Option : No Option Orientation : Vertical

Correct Marks : 1 Wrong Marks : 0.25

यदि एक टंकी $1/2$ पानी और $1/4$ तेल से भरी है। टंकी में जो बची हुई खली जगह है उसके हिसाब से पानी का प्रतिशत कितना है?

Options :

1. ✓ 200 प्रतिशत
2. ✗ 150 प्रतिशत
3. ✗ 100 प्रतिशत
4. ✗ 75 प्रतिशत

Question Number : 95 Question Id : 54592713427 Question Type : MCQ Option Shuffling : Yes Display Question Number : Yes
Single Line Question Option : No Option Orientation : Vertical

Correct Marks : 1 Wrong Marks : 0.25

A man sells 8 televisions at a profit of 20 percent and 4 at a profit of 5 percent. Find his net profit percentage?

Options :

1. ✓ 15 percent
2. ✗ 12 percent
3. ✗ 9 percent
4. ✗ 6 percent

Question Number : 95 Question Id : 54592713427 Question Type : MCQ Option Shuffling : Yes Display Question Number : Yes
Single Line Question Option : No Option Orientation : Vertical

Correct Marks : 1 Wrong Marks : 0.25

एक आदमी 8 टेलीविज़न को 20 प्रतिशत के लाभ पर और 4 को 5 प्रतिशत के लाभ पर बेचता है। उसका शुद्ध लाभ प्रतिशत ज्ञात करें?

Options :

1. ✓ 15 प्रतिशत
2. ✗ 12 प्रतिशत
3. ✗ 9 प्रतिशत
4. ✗ 6 प्रतिशत

Question Number : 96 Question Id : 54592713428 Question Type : MCQ Option Shuffling : Yes Display Question Number : Yes
Single Line Question Option : No Option Orientation : Vertical

Correct Marks : 1 Wrong Marks : 0.25

X sells 50 percent of his products at 50 percent profit, 30 percent at 40 percent profit and 20 percent at 30 percent profit, what is his net profit (round off to a whole number)?

Options :

1. ✓ 43 percent
2. ✗ 32 percent
3. ✗ 38 percent
4. ✗ 40 percent

Question Number : 96 Question Id : 54592713428 Question Type : MCQ Option Shuffling : Yes Display Question Number : Yes
Single Line Question Option : No Option Orientation : Vertical

Correct Marks : 1 Wrong Marks : 0.25

X अपने 50 प्रतिशत उत्पादों को 50 प्रतिशत लाभ पर बेचता है, 30 प्रतिशत को 40 प्रतिशत लाभ पर और 20 प्रतिशत को 30 प्रतिशत लाभ पर बेचता है, उसका शुद्ध लाभ (निकटतम पूर्णांक के रूप में) क्या है?

Options :

1. ✓ 43 प्रतिशत
2. ✗ 32 प्रतिशत
3. ✗ 38 प्रतिशत
4. ✗ 40 प्रतिशत

Question Number : 97 Question Id : 54592713429 Question Type : MCQ Option Shuffling : Yes Display Question Number : Yes
Single Line Question Option : No Option Orientation : Vertical

Correct Marks : 1 Wrong Marks : 0.25

Ganesh bought an iPhone for Rs. 54,500. The next day he sold it for Rs. 49,595. What is his loss percent?

Options :

1. ✗ 7.5 percent
2. ✓ 9 percent
3. ✗ 10.5 percent
4. ✗ 12 percent

Question Number : 97 Question Id : 54592713429 Question Type : MCQ Option Shuffling : Yes Display Question Number : Yes
Single Line Question Option : No Option Orientation : Vertical

Correct Marks : 1 Wrong Marks : 0.25

गणेश ने 54,500 रुपए में एक आईफोन खरीदा। अगले दिन उसने इसे 49,595 रुपए में बेच दिया। उसका नुकसान का प्रतिशत क्या है?

Options :

1. ✗ 7.5 प्रतिशत
2. ✓ 9 प्रतिशत
3. ✗ 10.5 प्रतिशत
4. ✗ 12 प्रतिशत

Question Number : 98 Question Id : 54592713430 Question Type : MCQ Option Shuffling : Yes Display Question Number : Yes
Single Line Question Option : No Option Orientation : Vertical

Correct Marks : 1 Wrong Marks : 0.25

By selling 27 candles, the seller makes a loss equal to the selling price of 3 candles. What is his loss percent?

Options :

1. ✗ 8 percent
2. ✓ 10 percent
3. ✗ 12 percent
4. ✗ 14 percent

Question Number : 98 Question Id : 54592713430 Question Type : MCQ Option Shuffling : Yes Display Question Number : Yes
Single Line Question Option : No Option Orientation : Vertical

Correct Marks : 1 Wrong Marks : 0.25

27 मोमबत्तियाँ बेचकर, विक्रेता 3 मोमबत्तियों की बिक्री मूल्य के बराबर नुकसान करता है। उसका नुकसान प्रतिशत क्या है?

Options :

1. ✗ 8 प्रतिशत
2. ✓ 10 प्रतिशत
3. ✗ 12 प्रतिशत
4. ✗ 14 प्रतिशत

Question Number : 99 Question Id : 54592713431 Question Type : MCQ Option Shuffling : Yes Display Question Number : Yes
Single Line Question Option : No Option Orientation : Vertical

Correct Marks : 1 Wrong Marks : 0.25

An item marked at Rs 100 is sold after three successive discounts of 10 percent, what is the selling price?

Options :

1. ✗ Rs. 70
2. ✓ Rs. 72.90
3. ✗ Rs. 73.60
4. ✗ Rs. 81

Question Number : 99 Question Id : 54592713431 Question Type : MCQ Option Shuffling : Yes Display Question Number : Yes
Single Line Question Option : No Option Orientation : Vertical

Correct Marks : 1 Wrong Marks : 0.25

100 रुपए पर चिह्नित एक वस्तु को 10 प्रतिशत की तीन क्रमिक छूट के बाद बेचा जाता है। उसका विक्रय मूल्य क्या है?

Options :

1. ✗ 70 रुपए
2. ✓ 72.90 रुपए
3. ✗ 73.60 रुपए
4. ✗ 81 रुपए

Question Number : 100 Question Id : 54592713432 Question Type : MCQ Option Shuffling : Yes Display Question Number : Yes
Single Line Question Option : No Option Orientation : Vertical

Correct Marks : 1 Wrong Marks : 0.25

If $A : B = 9 : 8$ and $B : C = 6 : 5$, then find the ratio of $C : B : A$.

Options :

1. ✗ 27 : 24 : 20
2. ✓ 20 : 24 : 27
3. ✗ 24 : 20 : 27
4. ✗ 24 : 27 : 20

Question Number : 100 Question Id : 54592713432 Question Type : MCQ Option Shuffling : Yes Display Question Number : Yes
Single Line Question Option : No Option Orientation : Vertical

Correct Marks : 1 Wrong Marks : 0.25

यदि $A : B = 9 : 8$ और $B : C = 6 : 5$ है, तो $C : B : A$ का अनुपात ज्ञात करें

Options :

- 1. ✖ 27 : 24 : 20
- 2. ✔ 20 : 24 : 27
- 3. ✖ 24 : 20 : 27
- 4. ✖ 24 : 27 : 20

	Arithmetic Ability2
Group Number :	6
Group Id :	545927666
Group Maximum Duration :	0
Group Minimum Duration :	0
Revisit allowed for view? :	No
Revisit allowed for edit? :	No
Break time:	0
Group Marks:	20
Revisit allowed for group Instructions? :	Yes
Maximum Instruction Time:	0
Minimum Instruction Time:	0

	Arithmetic Ability2
Section Id :	545927666
Section Number :	1
Section type :	Online
Mandatory or Optional:	Mandatory
Number of Questions:	20
Number of Questions to be attempted:	20
Section Marks:	20
Display Number Panel:	Yes
Group All Questions:	No

Sub-Section Number:	1
Sub-Section Id:	545927798
Question Shuffling Allowed :	Yes

Question Number : 101 Question Id : 54592713433 Question Type : MCQ Option Shuffling : Yes Display Question Number : Yes
Single Line Question Option : No Option Orientation : Vertical

Correct Marks : 1 Wrong Marks : 0.25

If $(x+y):(x-y) = 9:1$, then $4x : 3y = ?$

Options :

- 1. ✖ 3 : 4
- 2. ✖ 4 : 9
- 3. ✔ 5 : 3

4. ✖ 3 : 5

Question Number : 101 Question Id : 54592713433 Question Type : MCQ Option Shuffling : Yes Display Question Number : Yes
Single Line Question Option : No Option Orientation : Vertical

Correct Marks : 1 Wrong Marks : 0.25

यदि $(x+y):(x-y) = 9:1$ है, तो $4x : 3y = ?$

Options :

1. ✖ 3 : 4

2. ✖ 4 : 9

3. ✔ 5 : 3

4. ✖ 3 : 5

Question Number : 102 Question Id : 54592713434 Question Type : MCQ Option Shuffling : Yes Display Question Number : Yes
Single Line Question Option : No Option Orientation : Vertical

Correct Marks : 1 Wrong Marks : 0.25

If 4, y, y, 100 are in proportion, then find the value of y?

Options :

1. ✖ 10

2. ✖ 15

3. ✔ 20

4. ✖ 25

Question Number : 102 Question Id : 54592713434 Question Type : MCQ Option Shuffling : Yes Display Question Number : Yes
Single Line Question Option : No Option Orientation : Vertical

Correct Marks : 1 Wrong Marks : 0.25

यदि 4, y, y, 100 अनुपात में हैं, तो y का मूल्य ज्ञात करें

Options :

1. ✖ 10

2. ✖ 15

3. ✔ 20

4. ✖ 25

Question Number : 103 Question Id : 54592713435 Question Type : MCQ Option Shuffling : Yes Display Question Number : Yes
Single Line Question Option : No Option Orientation : Vertical

Correct Marks : 1 Wrong Marks : 0.25

Alpha and Gama invested Rs. 20000 each for 2.5 years at simple interest. Alpha received Rs. 1500 more than Gama. What is the difference in simple Interest earned by the two?

Options :

1. ✔ 3 percent

2. ✖ 4 percent

3. ✖ 2 percent

4. ✖ 3.50 percent

Question Number : 103 Question Id : 54592713435 Question Type : MCQ Option Shuffling : Yes Display Question Number : Yes
Single Line Question Option : No Option Orientation : Vertical

Correct Marks : 1 Wrong Marks : 0.25

अल्फा और गामा दोनों ने 20000 रुपए साधारण ब्याज पर 2.5 वर्षों के लिए निवेश किया। अल्फा को गामा से 1500 रुपए अधिक मिले। दोनों द्वारा अर्जित साधारण ब्याज दर में क्या अंतर है?

Options :

1. ✓ 3 प्रतिशत
2. ✗ 4 प्रतिशत
3. ✗ 2 प्रतिशत
4. ✗ 3.50 प्रतिशत

Question Number : 104 Question Id : 54592713436 Question Type : MCQ Option Shuffling : Yes Display Question Number : Yes
Single Line Question Option : No Option Orientation : Vertical

Correct Marks : 1 Wrong Marks : 0.25

Mohan borrowed an amount of Rs. 10000 at a simple interest of 8 percent for 5 years. He repaid the entire amount at the end of the 4th year and paid a penalty of Rs. 100. What is the total amount paid by Mohan at the end of the 4th year?

Options :

1. ✗ Rs. 13100
2. ✗ Rs. 13200
3. ✗ Rs. 13000
4. ✓ Rs. 13300

Question Number : 104 Question Id : 54592713436 Question Type : MCQ Option Shuffling : Yes Display Question Number : Yes
Single Line Question Option : No Option Orientation : Vertical

Correct Marks : 1 Wrong Marks : 0.25

मोहन ने 10000 रुपए की राशि 5 साल के लिए 8 प्रतिशत के साधारण ब्याज पर उधार ली। उसने चौथे वर्ष के अंत में पूरी राशि चुका दी और 100 रुपए का जुर्माना अदा किया। चौथे वर्ष के अंत में मोहन द्वारा भुगतान की गई कुल राशि क्या है?

Options :

1. ✗ 13100 रुपए
2. ✗ 13200 रुपए
3. ✗ 13000 रुपए
4. ✓ 13300 रुपए

Question Number : 105 Question Id : 54592713437 Question Type : MCQ Option Shuffling : Yes Display Question Number : Yes
Single Line Question Option : No Option Orientation : Vertical

Correct Marks : 1 Wrong Marks : 0.25

Mr. X invested $\frac{1}{2}$ of his investment at 6 percent p.a., 20 percent of his investment at 10 percent p.a. and balance at 8 percent p.a. At the end of the year, he received interest of Rs. 740. What is the total investment made by Mr. X?

Options :

1. ✓ Rs. 10000
2. ✗ Rs. 12000
3. ✗ Rs. 8000
4. ✗ Rs. 15000

Question Number : 105 Question Id : 54592713437 Question Type : MCQ Option Shuffling : Yes Display Question Number : Yes
Single Line Question Option : No Option Orientation : Vertical

Correct Marks : 1 Wrong Marks : 0.25

श्री. X ने अपने निवेश का $\frac{1}{2}$, 6 प्रतिशत प्रति वर्ष पर, अपने निवेश का 20 प्रतिशत, 10 प्रतिशत प्रति वर्ष की दर पर और बचे हुए निवेश की राशि 8 प्रतिशत प्रति वर्ष पर निवेश किया। वर्ष के अंत में उसे 740 रुपए ब्याज मिला। श्री. X द्वारा किया गया कुल निवेश कितना है?

Options :

1. ✓ 10000 रुपए
2. ✗ 12000 रुपए
3. ✗ 8000 रुपए

4. ✖ 15000 रुपए

Question Number : 106 Question Id : 54592713438 Question Type : MCQ Option Shuffling : Yes Display Question Number : Yes
Single Line Question Option : No Option Orientation : Vertical

Correct Marks : 1 Wrong Marks : 0.25

A runner completes a 400 m track by running 100 m at a speed of 10 m/s and the remaining 300 m at 15 m/s. Find the total time required?

Options :

1. ✖ 15 SI unit
2. ✖ 20 SI unit
3. ✔ 30 SI unit
4. ✖ 45 SI unit

Question Number : 106 Question Id : 54592713438 Question Type : MCQ Option Shuffling : Yes Display Question Number : Yes
Single Line Question Option : No Option Orientation : Vertical

Correct Marks : 1 Wrong Marks : 0.25

एक धावक 10 m/s की गति से 100 m और शेष 300 m, 15 m/s की गति से दौड़कर 400 m ट्रैक पूरा करता है। कुल आवश्यक समय ज्ञात करें?

Options :

1. ✖ 15 SI unit
2. ✖ 20 SI unit
3. ✔ 30 SI unit
4. ✖ 45 SI unit

Question Number : 107 Question Id : 54592713439 Question Type : MCQ Option Shuffling : Yes Display Question Number : Yes
Single Line Question Option : No Option Orientation : Vertical

Correct Marks : 1 Wrong Marks : 0.25

A train having a length of 150 m crosses a pole in 10 sec. Find its speed in km/h?

Options :

1. ✖ 48 km/h
2. ✔ 54 km/h
3. ✖ 60 km/h
4. ✖ 66 km/h

Question Number : 107 Question Id : 54592713439 Question Type : MCQ Option Shuffling : Yes Display Question Number : Yes
Single Line Question Option : No Option Orientation : Vertical

Correct Marks : 1 Wrong Marks : 0.25

150 m की लंबाई वाली रेलगाड़ी 10 सेकंड में एक पोल को पार करती है। km/h से इसकी गति ज्ञात करें?

Options :

1. ✖ 48 km/h
2. ✔ 54 km/h
3. ✖ 60 km/h
4. ✖ 66 km/h

Question Number : 108 Question Id : 54592713440 Question Type : MCQ Option Shuffling : Yes Display Question Number : Yes
Single Line Question Option : No Option Orientation : Vertical

Correct Marks : 1 Wrong Marks : 0.25

A train having a length of 200 m crosses a bridge of length 200 m in 20 seconds. Find its speed in km/h?

Options :

1. ✖ 36 km/h

2. ✖ 48 km/h
3. ✖ 60 km/h
4. ✔ 72 km/h

Question Number : 108 Question Id : 54592713440 Question Type : MCQ Option Shuffling : Yes Display Question Number : Yes
Single Line Question Option : No Option Orientation : Vertical

Correct Marks : 1 Wrong Marks : 0.25

200 m की लंबाई वाली रेलगाड़ी 20 सेकंड में 200 m की लंबाई के पुल को पार करती है। इसकी गति km/h में ज्ञात करें?

Options :

1. ✖ 36 km/h
2. ✖ 48 km/h
3. ✖ 60 km/h
4. ✔ 72 km/h

Question Number : 109 Question Id : 54592713441 Question Type : MCQ Option Shuffling : Yes Display Question Number : Yes
Single Line Question Option : No Option Orientation : Vertical

Correct Marks : 1 Wrong Marks : 0.25

At a summer camp, provision of supplies for 50 students were done for 6 days. If 25 students left the camp after 3 days, how many days extra can the remaining students spend with the supplies?

Options :

1. ✔ 3 days
2. ✖ 4 days
3. ✖ 5 days
4. ✖ 6 days

Question Number : 109 Question Id : 54592713441 Question Type : MCQ Option Shuffling : Yes Display Question Number : Yes
Single Line Question Option : No Option Orientation : Vertical

Correct Marks : 1 Wrong Marks : 0.25

एक ग्रीष्मकालीन शिविर में 50 छात्रों के लिए 6 दिनों के लिए सामान की आपूर्ति का प्रावधान किया गया था। यदि 25 छात्रों ने 3 दिनों के बाद शिविर छोड़ दिया, तो शेष छात्र बची हुई आपूर्ति को कितने दिन अतिरिक्त खर्च कर सकते हैं?

Options :

1. ✔ 3 दिन
2. ✖ 4 दिन
3. ✖ 5 दिन
4. ✖ 6 दिन

Question Number : 110 Question Id : 54592713442 Question Type : MCQ Option Shuffling : Yes Display Question Number : Yes
Single Line Question Option : No Option Orientation : Vertical

Correct Marks : 1 Wrong Marks : 0.25

A can complete a task in 5 days. B can complete the task in 6 days. If A alone completes $\frac{1}{2}$ of the task and leaves, then how much time will B take to complete the task?

Options :

1. ✔ 3 days
2. ✖ 4 days
3. ✖ 5 days
4. ✖ 6 days

Question Number : 110 Question Id : 54592713442 Question Type : MCQ Option Shuffling : Yes Display Question Number : Yes
Single Line Question Option : No Option Orientation : Vertical

Correct Marks : 1 Wrong Marks : 0.25

A एक कार्य को 5 दिनों में पूरा कर सकता है। B कार्य को 6 दिनों में पूरा कर सकता है। यदि A अकेले काम का $1/2$ पूरा करता है और छोड़ देता है, तो B को काम पूरा करने में कितना समय लगेगा?

Options :

1. ✓ 3 दिन
2. ✗ 4 दिन
3. ✗ 5 दिन
4. ✗ 6 दिन

Question Number : 111 Question Id : 54592713443 Question Type : MCQ Option Shuffling : Yes Display Question Number : Yes
Single Line Question Option : No Option Orientation : Vertical

Correct Marks : 1 Wrong Marks : 0.25

3 kids throw 10 balls a minute into a basket with a capacity of 500 balls. If each kid rests for 5 mins after every 10 mins, how much time will it take to fill the basket?

Options :

1. ✗ 30 mins
2. ✓ 70 mins
3. ✗ 75 mins
4. ✗ 45 mins

Question Number : 111 Question Id : 54592713443 Question Type : MCQ Option Shuffling : Yes Display Question Number : Yes
Single Line Question Option : No Option Orientation : Vertical

Correct Marks : 1 Wrong Marks : 0.25

3 बच्चे 500 गेंदों की क्षमतावाली एक टोकरी में 10 गेंदों को एक मिनट में फेंकते हैं। यदि प्रत्येक बच्चा प्रत्येक 10 मिनट के बाद 5 मिनट तक आराम करता है, तो टोकरी को भरने में कितना समय लगेगा?

Options :

1. ✗ 30 मिनट
2. ✓ 70 मिनट
3. ✗ 75 मिनट
4. ✗ 45 मिनट

Question Number : 112 Question Id : 54592713444 Question Type : MCQ Option Shuffling : Yes Display Question Number : Yes
Single Line Question Option : No Option Orientation : Vertical

Correct Marks : 1 Wrong Marks : 0.25

If 3 cubes of side, 2 cm each are stacked and then cut vertically in $1/3$ and $2/3$ parts, find the difference in the surface areas of the larger and the smaller part?

Options :

1. ✓ 16 sq cm^2
2. ✗ 4 sq cm^2
3. ✗ 6 sq cm^2
4. ✗ 8 sq cm^2

Question Number : 112 Question Id : 54592713444 Question Type : MCQ Option Shuffling : Yes Display Question Number : Yes
Single Line Question Option : No Option Orientation : Vertical

Correct Marks : 1 Wrong Marks : 0.25

यदि 2 cm साइड के 3 घनों का ढेर लगाया जाता है और फिर $1/3$ और $2/3$ भागों में खड़ा काटा जाता है, तो बड़े और छोटे हिस्से के सतह के अंतर को ज्ञात करें?

Options :

1. ✓ 16 sq cm^2

2. ✖ 4 sq cm^2
3. ✖ 6 sq cm^2
4. ✖ 8 sq cm^2

Question Number : 113 Question Id : 54592713445 Question Type : MCQ Option Shuffling : Yes Display Question Number : Yes
Single Line Question Option : No Option Orientation : Vertical

Correct Marks : 1 Wrong Marks : 0.25

If the radius of the hollow part of the coconut is $\frac{2}{3}$ times radius of the total coconut (consider sphere), find the fraction of the hollow volume?

Options :

1. ✖ $\frac{19}{27}$
2. ✔ $\frac{8}{27}$
3. ✖ $\frac{1}{3}$
4. ✖ $\frac{2}{3}$

Question Number : 113 Question Id : 54592713445 Question Type : MCQ Option Shuffling : Yes Display Question Number : Yes
Single Line Question Option : No Option Orientation : Vertical

Correct Marks : 1 Wrong Marks : 0.25

यदि नारियल के खोखले भाग की त्रिज्या कुल नारियल से $\frac{2}{3}$ गुना है (गोले पर विचार करें), तो खोखली मात्रा का अंश (भिन्न) ज्ञात करें?

Options :

1. ✖ $\frac{19}{27}$
2. ✔ $\frac{8}{27}$
3. ✖ $\frac{1}{3}$
4. ✖ $\frac{2}{3}$

Question Number : 114 Question Id : 54592713446 Question Type : MCQ Option Shuffling : Yes Display Question Number : Yes
Single Line Question Option : No Option Orientation : Vertical

Correct Marks : 1 Wrong Marks : 0.25

How many thermocol spheres with radius 0.2 cm can be made from a precursor pellet sphere of 2 cm radius?

Options :

1. ✔ 1000
2. ✖ 2000
3. ✖ 3000
4. ✖ 4000

Question Number : 114 Question Id : 54592713446 Question Type : MCQ Option Shuffling : Yes Display Question Number : Yes
Single Line Question Option : No Option Orientation : Vertical

Correct Marks : 1 Wrong Marks : 0.25

त्रिज्या 0.2 cm के साथ कितने थर्मोकोल गोले 2 cm त्रिज्या वाली अग्रदूत गोले क्षेत्र से बनाये जा सकते हैं?

Options :

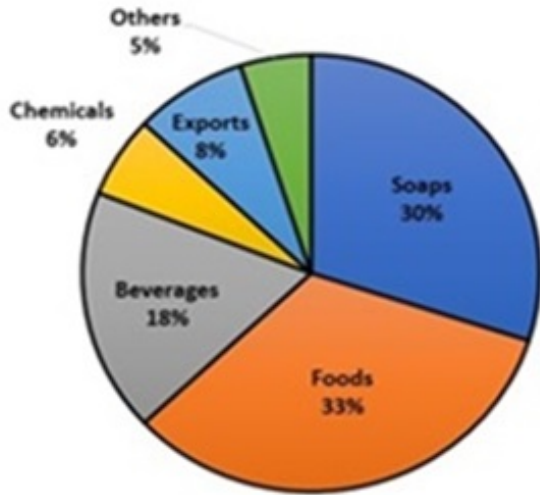
1. ✔ 1000
2. ✖ 2000
3. ✖ 3000
4. ✖ 4000

Question Number : 115 Question Id : 54592713447 Question Type : MCQ Option Shuffling : Yes Display Question Number : Yes
Single Line Question Option : No Option Orientation : Vertical

Correct Marks : 1 Wrong Marks : 0.25

The pie chart shows the various contributors to the revenue of a firm for the year 2018. The projections for 2019 were in the same proportion but with an increase of 20 percent overall. If soaps accounted for \$15 million of revenue in 2018, then how much will soaps and foods account for in 2019?

Contributors to the revenue of a firm for the year 2018



Options :

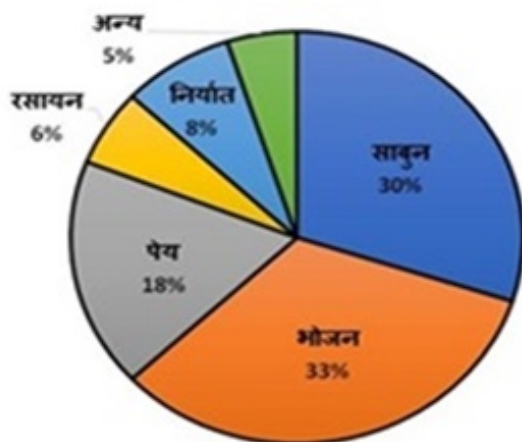
- ✗ \$36.8 million
- ✗ \$35.8 million
- ✗ \$37.2 million
- ✓ \$37.8 million

Question Number : 115 Question Id : 54592713447 Question Type : MCQ Option Shuffling : Yes Display Question Number : Yes Single Line Question Option : No Option Orientation : Vertical

Correct Marks : 1 Wrong Marks : 0.25

पाई चार्ट वर्ष 2018 के लिए एक फर्म के राजस्व में विभिन्न योगदानकर्ताओं को दर्शाता है। 2019 के लिए अनुमानित राजस्व कुल मिलाकर 20 प्रतिशत की वृद्धि के साथ एक ही अनुपात में था। यदि 2018 में साबुन का राजस्व \$15 मिलियन था, तो 2019 में खाद्य पदार्थों और साबुन के राजस्व का हिस्सा कितना होगा?

वर्ष 2018 के लिए एक फर्म के राजस्व में योगदानकर्ता



Options :

- ✗ \$36.8 मिलियन
- ✗ \$35.8 मिलियन
- ✗ \$37.2 मिलियन

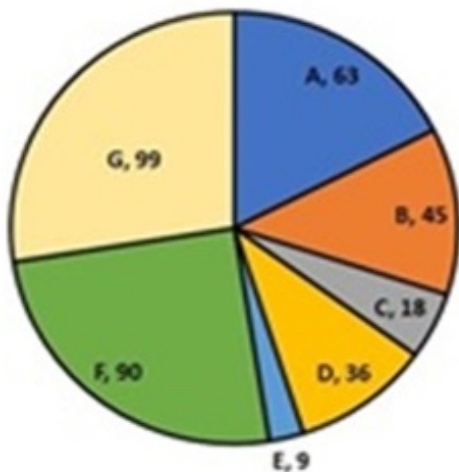
4. ✓ \$37.8 मिलियन

Question Number : 116 Question Id : 54592713448 Question Type : MCQ Option Shuffling : Yes Display Question Number : Yes
Single Line Question Option : No Option Orientation : Vertical

Correct Marks : 1 Wrong Marks : 0.25

The pie chart shows the proportions of spending by the government on their different plans. By how much is the amount spent on Plan F more than the amount spent on Plan D and E combined?

Proportions of spending by the Government



Options :

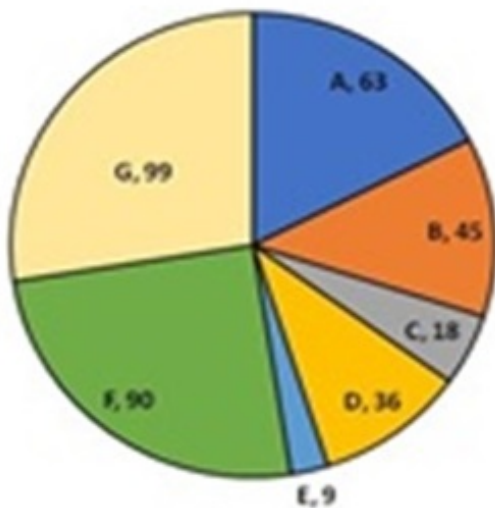
1. ✗ 0.5
2. ✗ 0.6667
3. ✗ 0.75
4. ✓ 1

Question Number : 116 Question Id : 54592713448 Question Type : MCQ Option Shuffling : Yes Display Question Number : Yes
Single Line Question Option : No Option Orientation : Vertical

Correct Marks : 1 Wrong Marks : 0.25

पाई चार्ट विभिन्न योजनाओं पर सरकार द्वारा खर्च के अनुपात को दर्शाता है। प्लान D और E पर खर्च की गई राशि की तुलना से प्लान F पर कितनी अधिक राशि खर्च की गई है?

सरकार द्वारा खर्च के अनुपात



Options :

1. ✖ 0.5
2. ✖ 0.6667
3. ✖ 0.75
4. ✔ 1

Question Number : 117 Question Id : 54592713449 Question Type : MCQ Option Shuffling : Yes Display Question Number : Yes
Single Line Question Option : No Option Orientation : Vertical

Correct Marks : 1 Wrong Marks : 0.25

The table shows the inflow and outflow of water in 4 different tanks of the same size and capacity in 5 different weeks. For which of the following tanks the ratio of increase in the amount of water in the tank from week 1 to week 5 was maximum?

	Tank 1		Tank 2		Tank 3		Tank 4	
	Inflow	Outflow	Inflow	Outflow	Inflow	Outflow	Inflow	Outflow
Week 1	48	0	32	0	40	0	56	0
Week 2	56	22	64	32	48	38	48	22
Week 3	58	36	68	28	56	40	52	16
Week 4	62	18	52	26	58	22	50	28
Week 5	68	42	78	42	70	20	44	18

Options :

1. ✖ Tank 1
2. ✔ Tank 2
3. ✖ Tank 3
4. ✖ Tank 4

Question Number : 117 Question Id : 54592713449 Question Type : MCQ Option Shuffling : Yes Display Question Number : Yes
Single Line Question Option : No Option Orientation : Vertical

Correct Marks : 1 Wrong Marks : 0.25

तालिका 5 अलग-अलग हफ्तों में एक ही आकार और क्षमता के 4 अलग-अलग टंकी में पानी भरने के प्रवाह और खाली होने के प्रवाह को दर्शाता है। निम्नलिखित में से किस टैंक के लिए 1 से 5 सप्ताह तक टंकी में पानी की मात्रा में वृद्धि का अनुपात अधिकतम था?

	टंकी 1		टंकी 2		टंकी 3		टंकी 4	
	अन्तर्वाह	बहिर्प्रवाह	अन्तर्वाह	बहिर्प्रवाह	अन्तर्वाह	बहिर्प्रवाह	अन्तर्वाह	बहिर्प्रवाह
सप्ताह 1	48	0	32	0	40	0	56	0
सप्ताह 2	56	22	64	32	48	38	48	22
सप्ताह 3	58	36	68	28	56	40	52	16
सप्ताह 4	62	18	52	26	58	22	50	28
सप्ताह 5	68	42	78	42	70	20	44	18

Options :

1. ✖ टंकी 1
2. ✔ टंकी 2

3. ✖ रंकी 3

4. ✖ रंकी 4

Question Number : 118 Question Id : 54592713450 Question Type : MCQ Option Shuffling : Yes Display Question Number : Yes
Single Line Question Option : No Option Orientation : Vertical

Correct Marks : 1 Wrong Marks : 0.25

The line chart shows the profit earned by two companies over a period of time. For which year is the difference between the profits earned the maximum between the two companies?



Options :

1. ✖ 2012

2. ✖ 2013

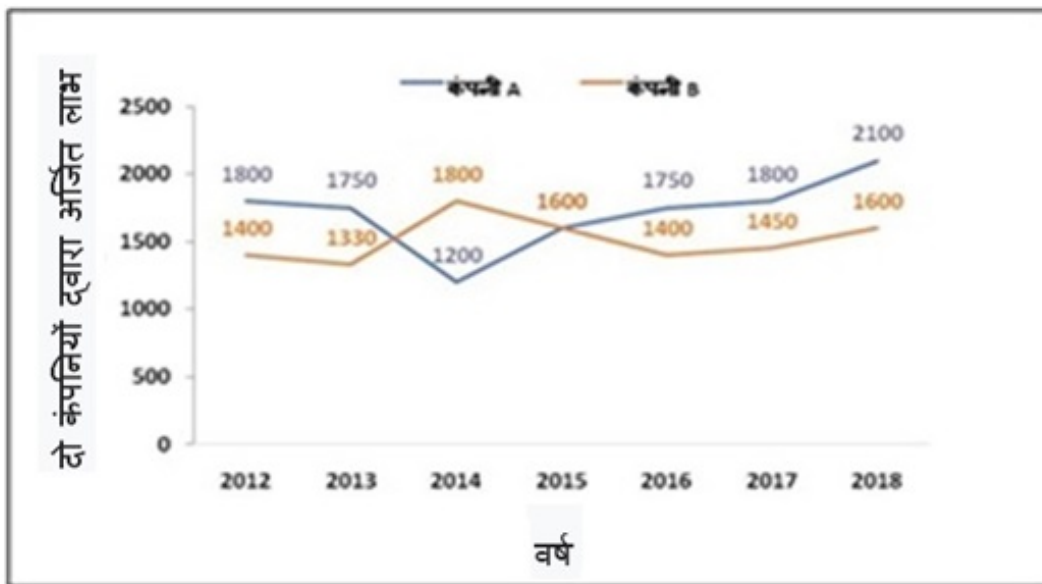
3. ✔ 2014

4. ✖ 2018

Question Number : 118 Question Id : 54592713450 Question Type : MCQ Option Shuffling : Yes Display Question Number : Yes
Single Line Question Option : No Option Orientation : Vertical

Correct Marks : 1 Wrong Marks : 0.25

लाइन चार्ट समय-समय पर दो कंपनियों द्वारा अर्जित लाभ को दर्शाता है। किस वर्ष दोनों कंपनियों ने जो लाभ अर्जित किया है उसके बीच का अंतर सबसे ज्यादा है?



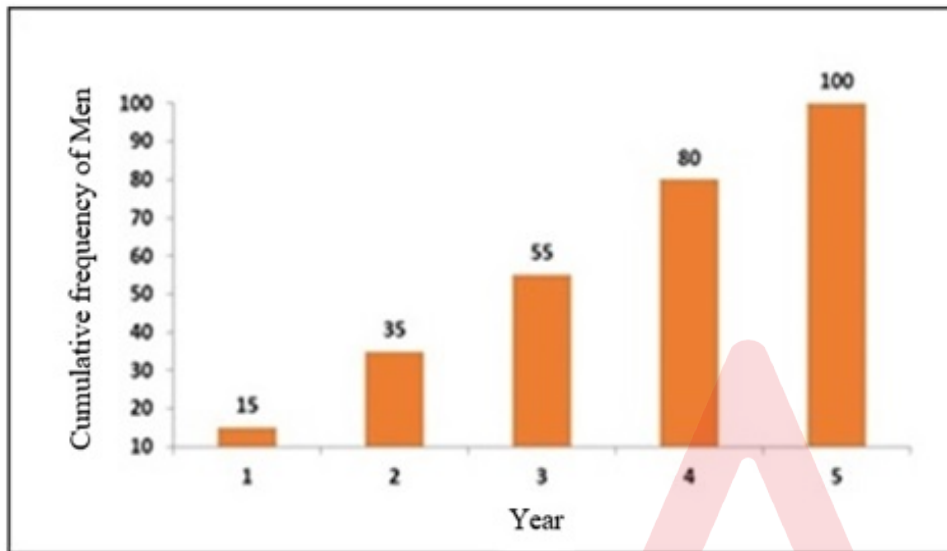
Options :

1. ✖ 2012
2. ✖ 2013
3. ✔ 2014
4. ✖ 2018

Question Number : 119 Question Id : 54592713451 Question Type : MCQ Option Shuffling : Yes Display Question Number : Yes
Single Line Question Option : No Option Orientation : Vertical

Correct Marks : 1 Wrong Marks : 0.25

The following bar graph shows the cumulative frequency of the total number of men participating in a theatre over a period of 4 years. In which year the increase in the number of men was maximum?



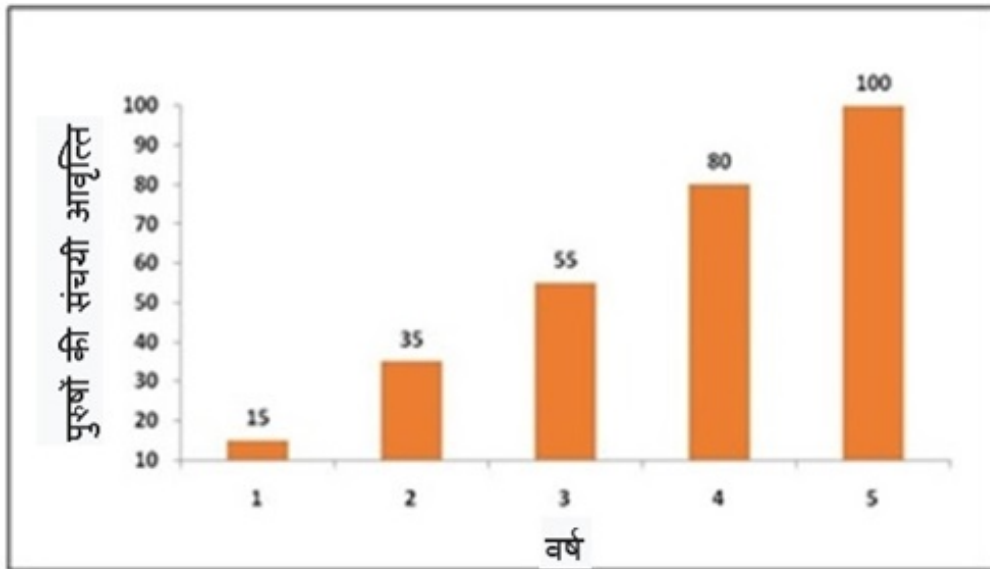
Options :

1. ✔ 2
2. ✖ 3
3. ✖ 4
4. ✖ 5

Question Number : 119 Question Id : 54592713451 Question Type : MCQ Option Shuffling : Yes Display Question Number : Yes
Single Line Question Option : No Option Orientation : Vertical

Correct Marks : 1 Wrong Marks : 0.25

निम्नलिखित बार ग्राफ 4 साल की अवधि में एक थिएटर में भाग लेने वाले पुरुषों की कुल संख्या की संचयी आवृत्ति को दर्शाता है। किस वर्ष में पुरुषों की संख्या में वृद्धि अधिकतम थी?



Options :

1. ✓ 2
2. ✗ 3
3. ✗ 4
4. ✗ 5

Question Number : 120 Question Id : 54592713452 Question Type : MCQ Option Shuffling : Yes Display Question Number : Yes Single Line Question Option : No Option Orientation : Vertical

Correct Marks : 1 Wrong Marks : 0.25

The line chart shows the annual grain production over a period of time. For which year is the percentage decrease in production from the previous year the highest?



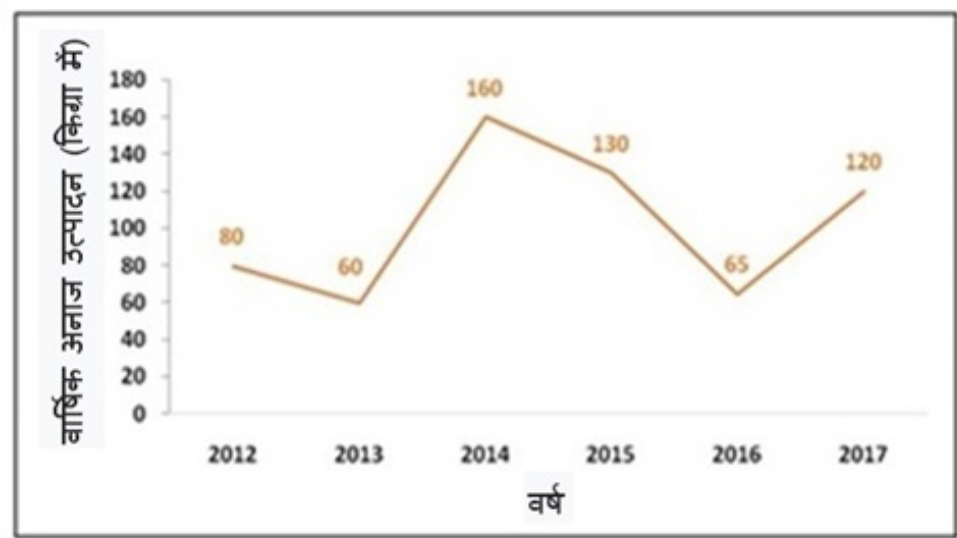
Options :

1. ✗ 2013
2. ✗ 2014
3. ✗ 2015
4. ✓ 2016

Question Number : 120 Question Id : 54592713452 Question Type : MCQ Option Shuffling : Yes Display Question Number : Yes
Single Line Question Option : No Option Orientation : Vertical

Correct Marks : 1 Wrong Marks : 0.25

लाइन चार्ट एक समय सीमा में वार्षिक अनाज उत्पादन को दर्शाता है। पिछले वर्ष की तुलना में किस वर्ष उत्पादन में प्रतिशत कमी सबसे अधिक है?



Options :

- 1. ✖ 2013
- 2. ✖ 2014
- 3. ✖ 2015
- 4. ✔ 2016

General English1

Group Number :	7
Group Id :	545927667
Group Maximum Duration :	0
Group Minimum Duration :	0
Revisit allowed for view? :	No
Revisit allowed for edit? :	No
Break time:	0
Group Marks:	20
Revisit allowed for group Instructions? :	Yes
Maximum Instruction Time:	0
Minimum Instruction Time:	0

General English1

Section Id :	545927667
Section Number :	1
Section type :	Online
Mandatory or Optional:	Mandatory
Number of Questions:	20
Number of Questions to be attempted:	20
Section Marks:	20
Display Number Panel:	Yes
Group All Questions:	No

Sub-Section Id: 545927799
Question Shuffling Allowed : Yes

Question Number : 121 Question Id : 54592713453 Question Type : MCQ Option Shuffling : Yes Display Question Number : Yes
Single Line Question Option : No Option Orientation : Vertical

Correct Marks : 1 Wrong Marks : 0.25

The sentence below has been divided into three parts. Select the part of the sentence that has an error. If the sentence has no error, select the option 'No Error'.

Manohar drove the car / all the way to / the famous hillstation.

Options :

1. ✓ Manohar drove the car
2. ✗ all the way to
3. ✗ the famous hillstation.
4. ✗ No Error

Question Number : 121 Question Id : 54592713453 Question Type : MCQ Option Shuffling : Yes Display Question Number : Yes
Single Line Question Option : No Option Orientation : Vertical

Correct Marks : 1 Wrong Marks : 0.25

The sentence below has been divided into three parts. Select the part of the sentence that has an error. If the sentence has no error, select the option 'No Error'.

Manohar drove the car / all the way to / the famous hillstation.

Options :

1. ✓ Manohar drove the car
2. ✗ all the way to
3. ✗ the famous hillstation.
4. ✗ No Error

Question Number : 122 Question Id : 54592713454 Question Type : MCQ Option Shuffling : Yes Display Question Number : Yes
Single Line Question Option : No Option Orientation : Vertical

Correct Marks : 1 Wrong Marks : 0.25

The sentence below has been divided into three parts. Select the part of the sentence that has an error. If the sentence has no error, select the option 'No Error'.

Maria danced and sang / as she was very happy / with her results.

Options :

1. ✗ Maria danced and sang
2. ✗ as she was very happy
3. ✗ with her results.
4. ✓ No Error

Question Number : 122 Question Id : 54592713454 Question Type : MCQ Option Shuffling : Yes Display Question Number : Yes
Single Line Question Option : No Option Orientation : Vertical

Correct Marks : 1 Wrong Marks : 0.25

The sentence below has been divided into three parts. Select the part of the sentence that has an error. If the sentence has no error, select the option 'No Error'.

Maria danced and sang / as she was very happy / with her results.

Options :

1. ✗ Maria danced and sang
2. ✗ as she was very happy

3. ✖ with her results.
4. ✔ No Error

Question Number : 123 Question Id : 54592713455 Question Type : MCQ Option Shuffling : Yes Display Question Number : Yes
Single Line Question Option : No Option Orientation : Vertical

Correct Marks : 1 Wrong Marks : 0.25

The sentence below has been divided into three parts. Select the part of the sentence that has an error. If the sentence has no error, select the option 'No Error'.

Mahesh falled into bad company / as his parents didn't / pay attention to him.

Options :

1. ✔ Mahesh falled into bad company
2. ✖ as his parents didn't
3. ✖ pay attention to him.
4. ✖ No Error

Question Number : 123 Question Id : 54592713455 Question Type : MCQ Option Shuffling : Yes Display Question Number : Yes
Single Line Question Option : No Option Orientation : Vertical

Correct Marks : 1 Wrong Marks : 0.25

The sentence below has been divided into three parts. Select the part of the sentence that has an error. If the sentence has no error, select the option 'No Error'.

Mahesh falled into bad company / as his parents didn't / pay attention to him.

Options :

1. ✔ Mahesh falled into bad company
2. ✖ as his parents didn't
3. ✖ pay attention to him.
4. ✖ No Error

Question Number : 124 Question Id : 54592713456 Question Type : MCQ Option Shuffling : Yes Display Question Number : Yes
Single Line Question Option : No Option Orientation : Vertical

Correct Marks : 1 Wrong Marks : 0.25

The sentence below has been divided into three parts. Select the part of the sentence that has an error. If the sentence has no error, select the option 'No Error'.

Bihari Lal went / from the village / to town on feets.

Options :

1. ✖ Bihari Lal went
2. ✖ from the village
3. ✔ to town on feets.
4. ✖ No Error

Question Number : 124 Question Id : 54592713456 Question Type : MCQ Option Shuffling : Yes Display Question Number : Yes
Single Line Question Option : No Option Orientation : Vertical

Correct Marks : 1 Wrong Marks : 0.25

The sentence below has been divided into three parts. Select the part of the sentence that has an error. If the sentence has no error, select the option 'No Error'.

Bihari Lal went / from the village / to town on feets.

Options :

1. ✖ Bihari Lal went

2. ✖ from the village
3. ✔ to town on feets.
4. ✖ No Error

Question Number : 125 Question Id : 54592713457 Question Type : MCQ Option Shuffling : Yes Display Question Number : Yes
Single Line Question Option : No Option Orientation : Vertical

Correct Marks : 1 Wrong Marks : 0.25

The sentence below has been divided into three parts. Select the part of the sentence that has an error. If the sentence has no error, select the option 'No Error'.

Neha can swim as fast / on the sea / as she can in a swimming pool.

Options :

1. ✖
Neha can swim as fast
2. ✔ on the sea
3. ✖ as she can in a swimming pool.
4. ✖ No Error

Question Number : 125 Question Id : 54592713457 Question Type : MCQ Option Shuffling : Yes Display Question Number : Yes
Single Line Question Option : No Option Orientation : Vertical

Correct Marks : 1 Wrong Marks : 0.25

The sentence below has been divided into three parts. Select the part of the sentence that has an error. If the sentence has no error, select the option 'No Error'.

Neha can swim as fast / on the sea / as she can in a swimming pool.

Options :

1. ✖
Neha can swim as fast
2. ✔ on the sea
3. ✖ as she can in a swimming pool.
4. ✖ No Error

Question Number : 126 Question Id : 54592713458 Question Type : MCQ Option Shuffling : Yes Display Question Number : Yes
Single Line Question Option : No Option Orientation : Vertical

Correct Marks : 1 Wrong Marks : 0.25

Select the word segment that substitutes (replaces) the braketed word segment correctly and completes the sentence meaningfully. Select the option 'no correction required' if the sentence is correct as given.

Mayank is a police officer, (didn't he)?

Options :

1. ✔ isn't he?
2. ✖ won't he?
3. ✖ wasn't he?
4. ✖ No correction required

Question Number : 126 Question Id : 54592713458 Question Type : MCQ Option Shuffling : Yes Display Question Number : Yes
Single Line Question Option : No Option Orientation : Vertical

Correct Marks : 1 Wrong Marks : 0.25

Select the word segment that substitutes (replaces) the braketed word segment correctly and completes the sentence meaningfully. Select the option 'no correction required' if the sentence is correct as given.

Mayank is a police officer, (didn't he)?

Options :

1. ☒ isn't he?
2. ☐ won't he?
3. ☐ wasn't he?
4. ☐ No correction required

Question Number : 127 Question Id : 54592713459 Question Type : MCQ Option Shuffling : Yes Display Question Number : Yes
Single Line Question Option : No Option Orientation : Vertical

Correct Marks : 1 Wrong Marks : 0.25

Select the word segment that substitutes (replaces) the braketted word segment correctly and completes the sentence meaningfully. Select the option 'no correction required' if the sentence is correct as given.

Harsh scored good marks (but he can have done better).

Options :

1. ☐ but he will have done better
2. ☒ but he could have done better
3. ☐ but he can had done better
4. ☐ No correction required

Question Number : 127 Question Id : 54592713459 Question Type : MCQ Option Shuffling : Yes Display Question Number : Yes
Single Line Question Option : No Option Orientation : Vertical

Correct Marks : 1 Wrong Marks : 0.25

Select the word segment that substitutes (replaces) the braketted word segment correctly and completes the sentence meaningfully. Select the option 'no correction required' if the sentence is correct as given.

Harsh scored good marks (but he can have done better).

Options :

1. ☐ but he will have done better
2. ☒ but he could have done better
3. ☐ but he can had done better
4. ☐ No correction required

Question Number : 128 Question Id : 54592713460 Question Type : MCQ Option Shuffling : Yes Display Question Number : Yes
Single Line Question Option : No Option Orientation : Vertical

Correct Marks : 1 Wrong Marks : 0.25

Select the word segment that substitutes (replaces) the braketted word segment correctly and completes the sentence meaningfully. Select the option 'no correction required' if the sentence is correct as given.

(Due to they live in the same city), they never meet.

Options :

1. ☒ Although they live in the same city
2. ☐ However they live in the same city
3. ☐ Therefore they live in the same city
4. ☐ No correction required

Question Number : 128 Question Id : 54592713460 Question Type : MCQ Option Shuffling : Yes Display Question Number : Yes
Single Line Question Option : No Option Orientation : Vertical

Correct Marks : 1 Wrong Marks : 0.25

Select the word segment that substitutes (replaces) the braketted word segment correctly and completes the sentence meaningfully. Select the option 'no correction required' if the sentence is correct as given.

(Due to they live in the same city), they never meet.

Options :

1. ✓ Although they live in the same city
2. ✗ However they live in the same city
3. ✗ Therefore they live in the same city
4. ✗ No correction required

Question Number : 129 Question Id : 54592713461 Question Type : MCQ Option Shuffling : Yes Display Question Number : Yes
Single Line Question Option : No Option Orientation : Vertical

Correct Marks : 1 Wrong Marks : 0.25

Select the word segment that substitutes (replaces) the braketted word segment correctly and completes the sentence meaningfully. Select the option 'no correction required' if the sentence is correct as given.

Lalita and Babita (is good friends).

Options :

1. ✓ are good friends
2. ✗ was good friends
3. ✗ are good friend
4. ✗ No correction required

Question Number : 129 Question Id : 54592713461 Question Type : MCQ Option Shuffling : Yes Display Question Number : Yes
Single Line Question Option : No Option Orientation : Vertical

Correct Marks : 1 Wrong Marks : 0.25

Select the word segment that substitutes (replaces) the braketted word segment correctly and completes the sentence meaningfully. Select the option 'no correction required' if the sentence is correct as given.

Lalita and Babita (is good friends).

Options :

1. ✓ are good friends
2. ✗ was good friends
3. ✗ are good friend
4. ✗ No correction required

Question Number : 130 Question Id : 54592713462 Question Type : MCQ Option Shuffling : Yes Display Question Number : Yes
Single Line Question Option : No Option Orientation : Vertical

Correct Marks : 1 Wrong Marks : 0.25

Select the word segment that substitutes (replaces) the braketted word segment correctly and completes the sentence meaningfully. Select the option 'no correction required' if the sentence is correct as given.

(The young readers were exciting) to meet their favourite author.

Options :

1. ✓ The young readers were excited
2. ✗ The young readers were excitedly
3. ✗ The young readers will excited
4. ✗ No correction required

Question Number : 130 Question Id : 54592713462 Question Type : MCQ Option Shuffling : Yes Display Question Number : Yes
Single Line Question Option : No Option Orientation : Vertical

Correct Marks : 1 Wrong Marks : 0.25

Select the word segment that substitutes (replaces) the braketed word segment correctly and completes the sentence meaningfully. Select the option 'no correction required' if the sentence is correct as given.

(The young readers were exciting) to meet their favourite author.

Options :

1. ✓ The young readers were excited
2. ✗ The young readers were excitedly
3. ✗ The young readers will excited
4. ✗ No correction required

Question Number : 131 Question Id : 54592713463 Question Type : MCQ Option Shuffling : Yes Display Question Number : Yes
Single Line Question Option : No Option Orientation : Vertical

Correct Marks : 1 Wrong Marks : 0.25

Select the most appropriate word that fills in the blank correctly and completes the sentence meaningfully.

The _____ tiger killed the traveller instantly.

Options :

1. ✗ weary
2. ✗ fictitious
3. ✓ ferocious
4. ✗ magnanimous

Question Number : 131 Question Id : 54592713463 Question Type : MCQ Option Shuffling : Yes Display Question Number : Yes
Single Line Question Option : No Option Orientation : Vertical

Correct Marks : 1 Wrong Marks : 0.25

Select the most appropriate word that fills in the blank correctly and completes the sentence meaningfully.

The _____ tiger killed the traveller instantly.

Options :

1. ✗ weary
2. ✗ fictitious
3. ✓ ferocious
4. ✗ magnanimous

Question Number : 132 Question Id : 54592713464 Question Type : MCQ Option Shuffling : Yes Display Question Number : Yes
Single Line Question Option : No Option Orientation : Vertical

Correct Marks : 1 Wrong Marks : 0.25

Select the most appropriate word that fills in the blank correctly and completes the sentence meaningfully.

The main culprit was caught but his _____ escaped.

Options :

1. ✗ pervert
2. ✓ accomplice
3. ✗ nemesis
4. ✗ barbarian

Question Number : 132 Question Id : 54592713464 Question Type : MCQ Option Shuffling : Yes Display Question Number : Yes
Single Line Question Option : No Option Orientation : Vertical

Correct Marks : 1 Wrong Marks : 0.25

Select the most appropriate word that fills in the blank correctly and completes the sentence meaningfully.

The main culprit was caught but his _____ escaped.

Options :

1. ✗ pervert
2. ✓ accomplice
3. ✗ nemesis
4. ✗ barbarian

Question Number : 133 Question Id : 54592713465 Question Type : MCQ Option Shuffling : Yes Display Question Number : Yes
Single Line Question Option : No Option Orientation : Vertical

Correct Marks : 1 Wrong Marks : 0.25

Select the most appropriate word that fills in the blank correctly and completes the sentence meaningfully.

She tried to _____ her age by wearing trendy clothes.

Options :

1. ✓ conceal
2. ✗ stake
3. ✗ frequent
4. ✗ pretend

Question Number : 133 Question Id : 54592713465 Question Type : MCQ Option Shuffling : Yes Display Question Number : Yes
Single Line Question Option : No Option Orientation : Vertical

Correct Marks : 1 Wrong Marks : 0.25

Select the most appropriate word that fills in the blank correctly and completes the sentence meaningfully.

She tried to _____ her age by wearing trendy clothes.

Options :

1. ✓ conceal
2. ✗ stake
3. ✗ frequent
4. ✗ pretend

Question Number : 134 Question Id : 54592713466 Question Type : MCQ Option Shuffling : Yes Display Question Number : Yes
Single Line Question Option : No Option Orientation : Vertical

Correct Marks : 1 Wrong Marks : 0.25

Select the most appropriate word that fills in the blank correctly and completes the sentence meaningfully.

The court _____ Shakeel for want of evidence.

Options :

1. ✓ acquitted
2. ✗ comprehended
3. ✗ facilitated
4. ✗ felicitated

Question Number : 134 Question Id : 54592713466 Question Type : MCQ Option Shuffling : Yes Display Question Number : Yes
Single Line Question Option : No Option Orientation : Vertical

Correct Marks : 1 Wrong Marks : 0.25

Select the most appropriate word that fills in the blank correctly and completes the sentence meaningfully.

The court _____ Shakeel for want of evidence.

Options :

1. ✓ acquitted
2. ✗ comprehended
3. ✗ facilitated
4. ✗ felicitated

Question Number : 135 Question Id : 54592713467 Question Type : MCQ Option Shuffling : Yes Display Question Number : Yes
Single Line Question Option : No Option Orientation : Vertical

Correct Marks : 1 Wrong Marks : 0.25

Select the most appropriate word that fills in the blank correctly and completes the sentence meaningfully.

Ravi could not _____ due to the constant noise.

Options :

1. ✗ gargle
2. ✓ concentrate
3. ✗ juggle
4. ✗ muggle

Question Number : 135 Question Id : 54592713467 Question Type : MCQ Option Shuffling : Yes Display Question Number : Yes
Single Line Question Option : No Option Orientation : Vertical

Correct Marks : 1 Wrong Marks : 0.25

Select the most appropriate word that fills in the blank correctly and completes the sentence meaningfully.

Ravi could not _____ due to the constant noise.

Options :

1. ✗ gargle
2. ✓ concentrate
3. ✗ juggle
4. ✗ muggle

Question Number : 136 Question Id : 54592713468 Question Type : MCQ Option Shuffling : Yes Display Question Number : Yes
Single Line Question Option : No Option Orientation : Vertical

Correct Marks : 1 Wrong Marks : 0.25

Select the most appropriate word that fills in the blank correctly and completes the sentence meaningfully.

The bird _____ her nest and flew away.

Options :

1. ✗ furnished
2. ✗ dilapidated
3. ✓ abandoned
4. ✗ harnessed

Question Number : 136 Question Id : 54592713468 Question Type : MCQ Option Shuffling : Yes Display Question Number : Yes
Single Line Question Option : No Option Orientation : Vertical

Correct Marks : 1 Wrong Marks : 0.25

Select the most appropriate word that fills in the blank correctly and completes the sentence meaningfully.

The bird _____ her nest and flew away.

Options :

1. ✗ furnished

2. ✖ dilapidated
3. ✔ abandoned
4. ✖ harnessed

Question Number : 137 Question Id : 54592713469 Question Type : MCQ Option Shuffling : Yes Display Question Number : Yes
Single Line Question Option : No Option Orientation : Vertical

Correct Marks : 1 Wrong Marks : 0.25

Select the most appropriate word that fills in the blank correctly and completes the sentence meaningfully.

The teacher _____ the students by asking them to write two essays.

Options :

1. ✔ punished
2. ✖ reiterated
3. ✖ inhibited
4. ✖ ruminated

Question Number : 137 Question Id : 54592713469 Question Type : MCQ Option Shuffling : Yes Display Question Number : Yes
Single Line Question Option : No Option Orientation : Vertical

Correct Marks : 1 Wrong Marks : 0.25

Select the most appropriate word that fills in the blank correctly and completes the sentence meaningfully.

The teacher _____ the students by asking them to write two essays.

Options :

1. ✔ punished
2. ✖ reiterated
3. ✖ inhibited
4. ✖ ruminated

Question Number : 138 Question Id : 54592713470 Question Type : MCQ Option Shuffling : Yes Display Question Number : Yes
Single Line Question Option : No Option Orientation : Vertical

Correct Marks : 1 Wrong Marks : 0.25

Select the most appropriate word that fills in the blank correctly and completes the sentence meaningfully.

Finally the trial court _____ the General and reinstated him as the Commander-in-Chief.

Options :

1. ✖ indicated
2. ✔ exonerated
3. ✖ excruciated
4. ✖ estranged

Question Number : 138 Question Id : 54592713470 Question Type : MCQ Option Shuffling : Yes Display Question Number : Yes
Single Line Question Option : No Option Orientation : Vertical

Correct Marks : 1 Wrong Marks : 0.25

Select the most appropriate word that fills in the blank correctly and completes the sentence meaningfully.

Finally the trial court _____ the General and reinstated him as the Commander-in-Chief.

Options :

1. ✖ indicated
2. ✔ exonerated
3. ✖ excruciated

4. ✖ estranged

Question Number : 139 Question Id : 54592713471 Question Type : MCQ Option Shuffling : Yes Display Question Number : Yes
Single Line Question Option : No Option Orientation : Vertical

Correct Marks : 1 Wrong Marks : 0.25

Some parts of a sentence have been jumbled up, and labeled P, Q, R and S. Select the option that gives the correct sequence in which these parts can be rearranged to form a meaningful and grammatically correct sentence.

P: at their children

Q: if they don't want to be

R: parents must stop yelling

S: yelled at by their children

Options :

1. ✖ PQRS

2. ✖ RQPS

3. ✖ SQPR

4. ✔ RPQS

Question Number : 139 Question Id : 54592713471 Question Type : MCQ Option Shuffling : Yes Display Question Number : Yes
Single Line Question Option : No Option Orientation : Vertical

Correct Marks : 1 Wrong Marks : 0.25

Some parts of a sentence have been jumbled up, and labeled P, Q, R and S. Select the option that gives the correct sequence in which these parts can be rearranged to form a meaningful and grammatically correct sentence.

P: at their children

Q: if they don't want to be

R: parents must stop yelling

S: yelled at by their children

Options :

1. ✖ PQRS

2. ✖ RQPS

3. ✖ SQPR

4. ✔ RPQS

Question Number : 140 Question Id : 54592713472 Question Type : MCQ Option Shuffling : Yes Display Question Number : Yes
Single Line Question Option : No Option Orientation : Vertical

Correct Marks : 1 Wrong Marks : 0.25

Some parts of a sentence have been jumbled up, and labeled P, Q, R and S. Select the option that gives the correct sequence in which these parts can be rearranged to form a meaningful and grammatically correct sentence.

P: in the first half of

Q: independence from the colonial powers

R: twentieth century,

S: many nations gained

Options :

1. ✖ SRQP

2. ✖ SRPQ

3. ✔ PRSQ

4. ✖ PQSR

Question Number : 140 Question Id : 54592713472 Question Type : MCQ Option Shuffling : Yes Display Question Number : Yes
Single Line Question Option : No Option Orientation : Vertical

Correct Marks : 1 Wrong Marks : 0.25

Some parts of a sentence have been jumbled up, and labeled P, Q, R and S. Select the option that gives the correct sequence in which these parts can be rearranged to form a meaningful and grammatically correct sentence.

- P: in the first half of
- Q: independence from the colonial powers
- R: twentieth century,
- S: many nations gained

Options :

- 1. ✖ SRQP
- 2. ✖ SRPQ
- 3. ✔ PRSQ
- 4. ✖ PQSR

	General English2
Group Number :	8
Group Id :	545927668
Group Maximum Duration :	0
Group Minimum Duration :	0
Revisit allowed for view? :	No
Revisit allowed for edit? :	No
Break time:	0
Group Marks:	20
Revisit allowed for group Instructions? :	Yes
Maximum Instruction Time:	0
Minimum Instruction Time:	0

	General English2
Section Id :	545927668
Section Number :	1
Section type :	Online
Mandatory or Optional:	Mandatory
Number of Questions:	16
Number of Questions to be attempted:	16
Section Marks:	20
Display Number Panel:	Yes
Group All Questions:	No

Sub-Section Number:	1
Sub-Section Id:	545927800
Question Shuffling Allowed :	Yes

Question Number : 141 Question Id : 54592713473 Question Type : MCQ Option Shuffling : Yes Display Question Number : Yes
Single Line Question Option : No Option Orientation : Vertical

Correct Marks : 1 Wrong Marks : 0.25

The sentences of a paragraph have been jumbled up, and labeled P, Q, R and S. Select the option that gives the correct sequence in which these sentences should be rearranged to form a meaningful paragraph.

- P: But the mayor had no time for any of this nonsense.
Q: The elections of the new mayor disturbed many officials.
R: Some of them tried to distract him.
S: And the others tried to flatter him.

Options :

1. ✖ RPQS
2. ✖ SRQP
3. ✖ SPQR
4. ✔ QRSP

Question Number : 141 Question Id : 54592713473 Question Type : MCQ Option Shuffling : Yes Display Question Number : Yes
Single Line Question Option : No Option Orientation : Vertical

Correct Marks : 1 Wrong Marks : 0.25

The sentences of a paragraph have been jumbled up, and labeled P, Q, R and S. Select the option that gives the correct sequence in which these sentences should be rearranged to form a meaningful paragraph.

- P: But the mayor had no time for any of this nonsense.
Q: The elections of the new mayor disturbed many officials.
R: Some of them tried to distract him.
S: And the others tried to flatter him.

Options :

1. ✖ RPQS
2. ✖ SRQP
3. ✖ SPQR
4. ✔ QRSP

Question Number : 142 Question Id : 54592713474 Question Type : MCQ Option Shuffling : Yes Display Question Number : Yes
Single Line Question Option : No Option Orientation : Vertical

Correct Marks : 1 Wrong Marks : 0.25

Select the word that is closest in meaning to the word given below.

PRUDENCE

Options :

1. ✔ Tact
2. ✖ Covert
3. ✖ Advent
4. ✖ Repent

Question Number : 142 Question Id : 54592713474 Question Type : MCQ Option Shuffling : Yes Display Question Number : Yes
Single Line Question Option : No Option Orientation : Vertical

Correct Marks : 1 Wrong Marks : 0.25

Select the word that is closest in meaning to the word given below.

PRUDENCE

Options :

1. ✔ Tact
2. ✖ Covert

3. ✖ Advent
4. ✖ Repent

Question Number : 143 Question Id : 54592713475 Question Type : MCQ Option Shuffling : Yes Display Question Number : Yes
Single Line Question Option : No Option Orientation : Vertical

Correct Marks : 1 Wrong Marks : 0.25

Select the word that is opposite in meaning to the word given below.

ALACRITY

Options :

1. ✖ Liability
2. ✔ Lethargy
3. ✖ Luscious
4. ✖ Melancholy

Question Number : 143 Question Id : 54592713475 Question Type : MCQ Option Shuffling : Yes Display Question Number : Yes
Single Line Question Option : No Option Orientation : Vertical

Correct Marks : 1 Wrong Marks : 0.25

Select the word that is opposite in meaning to the word given below.

ALACRITY

Options :

1. ✖ Liability
2. ✔ Lethargy
3. ✖ Luscious
4. ✖ Melancholy

Question Number : 144 Question Id : 54592713476 Question Type : MCQ Option Shuffling : Yes Display Question Number : Yes
Single Line Question Option : No Option Orientation : Vertical

Correct Marks : 1 Wrong Marks : 0.25

Select the word that is closest in meaning to the word given below.

SYCOPHANT

Options :

1. ✖ Caretaker
2. ✖ Huge
3. ✔ Flatterer
4. ✖ Cyclical

Question Number : 144 Question Id : 54592713476 Question Type : MCQ Option Shuffling : Yes Display Question Number : Yes
Single Line Question Option : No Option Orientation : Vertical

Correct Marks : 1 Wrong Marks : 0.25

Select the word that is closest in meaning to the word given below.

SYCOPHANT

Options :

1. ✖ Caretaker
2. ✖ Huge
3. ✔ Flatterer
4. ✖ Cyclical

Question Number : 145 Question Id : 54592713477 Question Type : MCQ Option Shuffling : Yes Display Question Number : Yes
Single Line Question Option : No Option Orientation : Vertical

Correct Marks : 1 Wrong Marks : 0.25

Select the word that is opposite in meaning to the word given below.

CONCISE

Options :

1. ✓ Lengthy
2. ✗ Short
3. ✗ Mean
4. ✗ Apparent

Question Number : 145 Question Id : 54592713477 Question Type : MCQ Option Shuffling : Yes Display Question Number : Yes
Single Line Question Option : No Option Orientation : Vertical

Correct Marks : 1 Wrong Marks : 0.25

Select the word that is opposite in meaning to the word given below.

CONCISE

Options :

1. ✓ Lengthy
2. ✗ Short
3. ✗ Mean
4. ✗ Apparent

Question Number : 146 Question Id : 54592713478 Question Type : MCQ Option Shuffling : Yes Display Question Number : Yes
Single Line Question Option : No Option Orientation : Vertical

Correct Marks : 1 Wrong Marks : 0.25

Select the correct word HOMONYM that fills in the blank and makes the sentence meaningful.

The angry captain _____ at the soldiers for being late.

Options :

1. ✗ yield
2. ✓ yelled
3. ✗ veiled
4. ✗ wailed

Question Number : 146 Question Id : 54592713478 Question Type : MCQ Option Shuffling : Yes Display Question Number : Yes
Single Line Question Option : No Option Orientation : Vertical

Correct Marks : 1 Wrong Marks : 0.25

Select the correct word HOMONYM that fills in the blank and makes the sentence meaningful.

The angry captain _____ at the soldiers for being late.

Options :

1. ✗ yield
2. ✓ yelled
3. ✗ veiled
4. ✗ wailed

Question Number : 147 Question Id : 54592713479 Question Type : MCQ Option Shuffling : Yes Display Question Number : Yes
Single Line Question Option : No Option Orientation : Vertical

Correct Marks : 1 Wrong Marks : 0.25

Four words are given, out of which only one word is spelt correctly. Choose the correctly spelt word.

Options :

1. ✖ Accessible
2. ✖ Accesible
3. ✖ Accesable
4. ✔ Accessible

Question Number : 147 Question Id : 54592713479 Question Type : MCQ Option Shuffling : Yes Display Question Number : Yes
Single Line Question Option : No Option Orientation : Vertical

Correct Marks : 1 Wrong Marks : 0.25

Four words are given, out of which only one word is spelt correctly. Choose the correctly spelt word.

Options :

1. ✖ Accessible
2. ✖ Accesible
3. ✖ Accesable
4. ✔ Accessible

Question Number : 148 Question Id : 54592713480 Question Type : MCQ Option Shuffling : Yes Display Question Number : Yes
Single Line Question Option : No Option Orientation : Vertical

Correct Marks : 1 Wrong Marks : 0.25

Four words are given, out of which only one word is spelt correctly. Choose the correctly spelt word.

Options :

1. ✖ Secreatary
2. ✖ Secretry
3. ✖ Sacretary
4. ✔ Secretary

Question Number : 148 Question Id : 54592713480 Question Type : MCQ Option Shuffling : Yes Display Question Number : Yes
Single Line Question Option : No Option Orientation : Vertical

Correct Marks : 1 Wrong Marks : 0.25

Four words are given, out of which only one word is spelt correctly. Choose the correctly spelt word.

Options :

1. ✖ Secreatary
2. ✖ Secretry
3. ✖ Sacretary
4. ✔ Secretary

Question Number : 149 Question Id : 54592713481 Question Type : MCQ Option Shuffling : Yes Display Question Number : Yes
Single Line Question Option : No Option Orientation : Vertical

Correct Marks : 1 Wrong Marks : 0.25

Four words are given, out of which only one word is spelt correctly. Choose the correctly spelt word.

Options :

1. ✔ Entrepreneur
2. ✖ Entrapreneur
3. ✖ Enterpreneur
4. ✖ Entreprenuer

Question Number : 149 Question Id : 54592713481 Question Type : MCQ Option Shuffling : Yes Display Question Number : Yes
Single Line Question Option : No Option Orientation : Vertical

Correct Marks : 1 Wrong Marks : 0.25

Four words are given, out of which only one word is spelt correctly. Choose the correctly spelt word.

Options :

1. ✓ Entrepreneur
2. ✗ Entrapreneur
3. ✗ Enterpreneur
4. ✗ Entreprenuer

Question Number : 150 Question Id : 54592713482 Question Type : MCQ Option Shuffling : Yes Display Question Number : Yes
Single Line Question Option : No Option Orientation : Vertical

Correct Marks : 1 Wrong Marks : 0.25

Select the option that best expresses the meaning of the idiom or phrase given below.

Rain, cats and dogs

Options :

1. ✗ Buy a lot of pets
2. ✗ To be surrounded by numerous small problems
3. ✗ To be in a noisy place
4. ✓ Rain heavily

Question Number : 150 Question Id : 54592713482 Question Type : MCQ Option Shuffling : Yes Display Question Number : Yes
Single Line Question Option : No Option Orientation : Vertical

Correct Marks : 1 Wrong Marks : 0.25

Select the option that best expresses the meaning of the idiom or phrase given below.

Rain, cats and dogs

Options :

1. ✗ Buy a lot of pets
2. ✗ To be surrounded by numerous small problems
3. ✗ To be in a noisy place
4. ✓ Rain heavily

Question Number : 151 Question Id : 54592713483 Question Type : MCQ Option Shuffling : Yes Display Question Number : Yes
Single Line Question Option : No Option Orientation : Vertical

Correct Marks : 1 Wrong Marks : 0.25

Select the option that best expresses the meaning of the idiom or phrase given below.

Bark up the wrong tree

Options :

1. ✗ Life full of quarrels
2. ✗ To create unnecessary ruckus
3. ✓ Accuse or denounce the wrong person
4. ✗ Have a secret plan

Question Number : 151 Question Id : 54592713483 Question Type : MCQ Option Shuffling : Yes Display Question Number : Yes
Single Line Question Option : No Option Orientation : Vertical

Correct Marks : 1 Wrong Marks : 0.25

Select the option that best expresses the meaning of the idiom or phrase given below.

Bark up the wrong tree

Options :

1. ✖ Life full of quarrels
2. ✖ To create unnecessary ruckus
3. ✔ Accuse or denounce the wrong person
4. ✖ Have a secret plan

Question Number : 152 Question Id : 54592713484 Question Type : MCQ Option Shuffling : Yes Display Question Number : Yes
Single Line Question Option : No Option Orientation : Vertical

Correct Marks : 1 Wrong Marks : 0.25

Select the option that best expresses the meaning of the idiom or phrase given below.

By hook or by crook

Options :

1. ✖ Suspect something foul
2. ✖ Deliberately and without emotion
3. ✖ In a strange situation
4. ✔ By fair or foul means

Question Number : 152 Question Id : 54592713484 Question Type : MCQ Option Shuffling : Yes Display Question Number : Yes
Single Line Question Option : No Option Orientation : Vertical

Correct Marks : 1 Wrong Marks : 0.25

Select the option that best expresses the meaning of the idiom or phrase given below.

By hook or by crook

Options :

1. ✖ Suspect something foul
2. ✖ Deliberately and without emotion
3. ✖ In a strange situation
4. ✔ By fair or foul means

Question Number : 153 Question Id : 54592713485 Question Type : MCQ Option Shuffling : Yes Display Question Number : Yes
Single Line Question Option : No Option Orientation : Vertical

Correct Marks : 1 Wrong Marks : 0.25

Select the most appropriate 'one word ' for the expressions given below.

An extreme or irrational fear of confined places

Options :

1. ✖ Demonomania
2. ✔ Claustrophobia
3. ✖ Cynophobia
4. ✖ Dipsophobia

Question Number : 153 Question Id : 54592713485 Question Type : MCQ Option Shuffling : Yes Display Question Number : Yes
Single Line Question Option : No Option Orientation : Vertical

Correct Marks : 1 Wrong Marks : 0.25

Select the most appropriate 'one word ' for the expressions given below.

An extreme or irrational fear of confined places

Options :

1. ✖ Demonomania

2. ✓ Claustrophobia
3. ✗ Cynophobia
4. ✗ Dipsophobia

Question Number : 154 Question Id : 54592713486 Question Type : MCQ Option Shuffling : Yes Display Question Number : Yes
Single Line Question Option : No Option Orientation : Vertical

Correct Marks : 1 Wrong Marks : 0.25

Select the most appropriate 'one word ' for the expressions given below.

Extreme fear of death

Options :

1. ✗ Hedonophobia
2. ✗ Nyctophobia
3. ✓ Thanatophobia
4. ✗ Cynophobia

Question Number : 154 Question Id : 54592713486 Question Type : MCQ Option Shuffling : Yes Display Question Number : Yes
Single Line Question Option : No Option Orientation : Vertical

Correct Marks : 1 Wrong Marks : 0.25

Select the most appropriate 'one word ' for the expressions given below.

Extreme fear of death

Options :

1. ✗ Hedonophobia
2. ✗ Nyctophobia
3. ✓ Thanatophobia
4. ✗ Cynophobia

Question Number : 155 Question Id : 54592713487 Question Type : MCQ Option Shuffling : Yes Display Question Number : Yes
Single Line Question Option : No Option Orientation : Vertical

Correct Marks : 1 Wrong Marks : 0.25

Select the most appropriate 'one word ' for the expressions given below.

The theory or philosophy of law

Options :

1. ✗ Linguistics
2. ✗ Semitism
3. ✓ Jurisprudence
4. ✗ Legitimacy

Question Number : 155 Question Id : 54592713487 Question Type : MCQ Option Shuffling : Yes Display Question Number : Yes
Single Line Question Option : No Option Orientation : Vertical

Correct Marks : 1 Wrong Marks : 0.25

Select the most appropriate 'one word ' for the expressions given below.

The theory or philosophy of law

Options :

1. ✗ Linguistics
2. ✗ Semitism
3. ✓ Jurisprudence

4. ✖ Legitimacy

Sub-Section Number: 2
Sub-Section Id: 545927801
Question Shuffling Allowed : Yes

Question Id : 54592713488 Question Type : COMPREHENSION Sub Question Shuffling Allowed : Yes Group Comprehension Questions : No

Question Numbers : (156 to 160)

Question Label : Comprehension

Read the passage below and answer the questions that follow.

Kaas plateau is a plateau located near Satara. It is situated high hill plateaus and grasslands turns into a 'valley of flowers' during monsoon season, particularly from August to early October. Kaas Plateau has more than 150 or more types of flowers, shrubs and grasses. The orchids bloom here for a period of 3-4 weeks during this season. Kaas plateau is a World Natural Heritage site, part of the Sahyadri Sub-cluster. It is a biodiversity hotspot known for various types of seasonal wild flowers bloom and numerous species of endemic butterflies annually in the months of August and September.[3] The plateau is situated at an altitude of 1200 metres and is approximately 10 square km in area. Kaas has more than 850 different species of flowering plants. These include orchids, shrubs such as the Karvy, and carnivorous plants such as Drosera Indica. Kaas Pathar is a plateau made from volcanic rocks in the Satara district of Maharashtra, and comes under the biosphere of the Western Ghats. The flora of Kaas, the entire flowering plants and their related plants, are typically restricted to that particular locality only. This is because the plateau is largely formed of basalt which is directly exposed to atmosphere. The basalt is almost covered entirely by a thin cover of soil formed due to erosion and has accumulated a layer of not more than an inch or so. To control possible damage by tourists, the number of visitors to the plateau has been restricted to 3,000 per day.

Sub questions

Question Number : 156 Question Id : 54592713489 Question Type : MCQ Option Shuffling : Yes Display Question Number : Yes Single Line Question Option : No Option Orientation : Vertical

Correct Marks : 1 Wrong Marks : 0.25

Kaas plateau is a plateau located near which city?

Options :

1. ✖ Dehradun
2. ✔ Satara
3. ✖ Pune
4. ✖ Kolhapur

Question Number : 157 Question Id : 54592713490 Question Type : MCQ Option Shuffling : Yes Display Question Number : Yes Single Line Question Option : No Option Orientation : Vertical

Correct Marks : 1 Wrong Marks : 0.25

Kaas plateau is a subcluster of:

Options :

1. ✔ Sahyadri
2. ✖ Peer Panjal
3. ✖ Western Ghats
4. ✖ Drosera Indica

Question Number : 158 Question Id : 54592713491 Question Type : MCQ Option Shuffling : Yes Display Question Number : Yes Single Line Question Option : No Option Orientation : Vertical

Correct Marks : 1 Wrong Marks : 0.25

When does Kaas plateau turn into a 'valley of flowers'?

Options :

1. ✖ July to August
2. ✔ August to early October
3. ✖ June to August
4. ✖ August to January

Question Number : 159 Question Id : 54592713492 Question Type : MCQ Option Shuffling : Yes Display Question Number : Yes
Single Line Question Option : No Option Orientation : Vertical

Correct Marks : 1 Wrong Marks : 0.25

The plateau is situated at an altitude of:

Options :

1. ✖ 800 metres
2. ✖ 3200 metres
3. ✖ 2400 metres
4. ✔ 1200 metres

Question Number : 160 Question Id : 54592713493 Question Type : MCQ Option Shuffling : Yes Display Question Number : Yes
Single Line Question Option : No Option Orientation : Vertical

Correct Marks : 1 Wrong Marks : 0.25

Why is the number of visitors to the plateau restricted to 3,000 per day?

Options :

1. ✖ To make it a rare commodity and charge the tourists exorbitantly
2. ✖ Because the roads are narrow
3. ✔ To control possible damage by tourists
4. ✖ To attract foreign currency

Question Id : 54592713488 Question Type : COMPREHENSION Sub Question Shuffling Allowed : Yes Group Comprehension
Questions : No

Question Numbers : (156 to 160)

Question Label : Comprehension

Read the passage below and answer the questions that follow.

Kaas plateau is a plateau located near Satara. It is situated high hill plateaus and grasslands turns into a 'valley of flowers' during monsoon season, particularly from August to early October. Kaas Plateau has more than 150 or more types of flowers, shrubs and grasses. The orchids bloom here for a period of 3-4 weeks during this season. Kaas plateau is a World Natural Heritage site, part of the Sahyadri Sub-cluster. It is a biodiversity hotspot known for various types of seasonal wild flowers bloom and numerous species of endemic butterflies annually in the months of August and September.[3] The plateau is situated at an altitude of 1200 metres and is approximately 10 square km in area. Kaas has more than 850 different species of flowering plants. These include orchids, shrubs such as the Karvy, and carnivorous plants such as Drosera Indica. Kaas Pathar is a plateau made from volcanic rocks in the Satara district of Maharashtra, and comes under the biosphere of the Western Ghats. The flora of Kaas, the entire flowering plants and their related plants, are typically restricted to that particular locality only. This is because the plateau is largely formed of basalt which is directly exposed to atmosphere. The basalt is almost covered entirely by a thin cover of soil formed due to erosion and has accumulated a layer of not more than an inch or so. To control possible damage by tourists, the number of visitors to the plateau has been restricted to 3,000 per day.

Sub questions

Question Number : 156 Question Id : 54592713489 Question Type : MCQ Option Shuffling : Yes Display Question Number : Yes
Single Line Question Option : No Option Orientation : Vertical

Correct Marks : 1 Wrong Marks : 0.25

Kaas plateau is a plateau located near which city?

Options :

1. ✗ Dehradun
2. ✓ Satara
3. ✗ Pune
4. ✗ Kolhapur

Question Number : 157 Question Id : 54592713490 Question Type : MCQ Option Shuffling : Yes Display Question Number : Yes
Single Line Question Option : No Option Orientation : Vertical

Correct Marks : 1 Wrong Marks : 0.25

Kaas plateau is a subcluster of:

Options :

1. ✓ Sahyadri
2. ✗ Peer Panjal
3. ✗ Western Ghats
4. ✗ Drosera Indica

Question Number : 158 Question Id : 54592713491 Question Type : MCQ Option Shuffling : Yes Display Question Number : Yes
Single Line Question Option : No Option Orientation : Vertical

Correct Marks : 1 Wrong Marks : 0.25

When does Kaas plateau turn into a 'valley of flowers'?

Options :

1. ✗ July to August
2. ✓ August to early October
3. ✗ June to August
4. ✗ August to January

Question Number : 159 Question Id : 54592713492 Question Type : MCQ Option Shuffling : Yes Display Question Number : Yes
Single Line Question Option : No Option Orientation : Vertical

Correct Marks : 1 Wrong Marks : 0.25

The plateau is situated at an altitude of:

Options :

1. ✗ 800 metres
2. ✗ 3200 metres
3. ✗ 2400 metres
4. ✓ 1200 metres

Question Number : 160 Question Id : 54592713493 Question Type : MCQ Option Shuffling : Yes Display Question Number : Yes
Single Line Question Option : No Option Orientation : Vertical

Correct Marks : 1 Wrong Marks : 0.25

Why is the number of visitors to the plateau restricted to 3,000 per day?

Options :

1. ✗ To make it a rare commodity and charge the tourists exorbitantly
2. ✗ Because the roads are narrow
3. ✓ To control possible damage by tourists
4. ✗ To attract foreign currency

General Hindi1	
Group Number :	9
Group Id :	545927669
Group Maximum Duration :	0
Group Minimum Duration :	0
Revisit allowed for view? :	No
Revisit allowed for edit? :	No
Break time:	0
Group Marks:	20
Revisit allowed for group Instructions? :	Yes
Maximum Instruction Time:	0
Minimum Instruction Time:	0

General Hindi1	
Section Id :	545927669
Section Number :	1
Section type :	Online
Mandatory or Optional:	Mandatory
Number of Questions:	20
Number of Questions to be attempted:	20
Section Marks:	20
Display Number Panel:	Yes
Group All Questions:	No

Sub-Section Number:	1
Sub-Section Id:	545927802
Question Shuffling Allowed :	Yes

Question Number : 161 Question Id : 54592713494 Question Type : MCQ Option Shuffling : Yes Display Question Number : Yes
 Single Line Question Option : No Option Orientation : Vertical
 Correct Marks : 1 Wrong Marks : 0.25

निम्नलिखित प्रश्न में, चार विकल्पों में से, उस विकल्प का चयन करें जो दिए गए सही संधि विच्छेद की संधि का सही विकल्प हो।

उपरि + उक्त

Options :

- ✖ उपरिउक्त
- ✔ उपर्युक्त
- ✖ उपरयुक्त
- ✖ ऊपरयुक्त

Question Number : 161 Question Id : 54592713494 Question Type : MCQ Option Shuffling : Yes Display Question Number : Yes
 Single Line Question Option : No Option Orientation : Vertical
 Correct Marks : 1 Wrong Marks : 0.25

निम्नलिखित प्रश्न में, चार विकल्पों में से, उस विकल्प का चयन करें जो दिए गए सही संधि विच्छेद की संधि का सही विकल्प हो।

उपरि + उक्त

Options :

- ✖ उपरिउक्त
- ✔ उपर्युक्त

3. ✖ उपरयुक्त

4. ✖ ऊपरयुक्त

Question Number : 162 Question Id : 54592713495 Question Type : MCQ Option Shuffling : Yes Display Question Number : Yes
Single Line Question Option : No Option Orientation : Vertical

Correct Marks : 1 Wrong Marks : 0.25

निम्नलिखित प्रश्न में, चार विकल्पों में से, उस विकल्प का चयन करें जो दिए गए शब्द के सही संधि विच्छेद का विकल्प हो।

स्वेच्छा

Options :

1. ✖ स्वे + इच्छा

2. ✖ स्वी + इच्छा

3. ✔ स्व + इच्छा

4. ✖ स्वीच + च्छा

Question Number : 162 Question Id : 54592713495 Question Type : MCQ Option Shuffling : Yes Display Question Number : Yes
Single Line Question Option : No Option Orientation : Vertical

Correct Marks : 1 Wrong Marks : 0.25

निम्नलिखित प्रश्न में, चार विकल्पों में से, उस विकल्प का चयन करें जो दिए गए शब्द के सही संधि विच्छेद का विकल्प हो।

स्वेच्छा

Options :

1. ✖ स्वे + इच्छा

2. ✖ स्वी + इच्छा

3. ✔ स्व + इच्छा

4. ✖ स्वीच + च्छा

Question Number : 163 Question Id : 54592713496 Question Type : MCQ Option Shuffling : Yes Display Question Number : Yes
Single Line Question Option : No Option Orientation : Vertical

Correct Marks : 1 Wrong Marks : 0.25

निम्नलिखित प्रश्न में, चार विकल्पों में से, उस विकल्प का चयन करें जो जातिवाचक संज्ञा का सही विकल्प है।

Options :

1. ✔ इंसान

2. ✖ पांडित्य

3. ✖ अहंकार

4. ✖ पराया

Question Number : 163 Question Id : 54592713496 Question Type : MCQ Option Shuffling : Yes Display Question Number : Yes
Single Line Question Option : No Option Orientation : Vertical

Correct Marks : 1 Wrong Marks : 0.25

निम्नलिखित प्रश्न में, चार विकल्पों में से, उस विकल्प का चयन करें जो जातिवाचक संज्ञा का सही विकल्प है।

Options :

1. ✔ इंसान

2. ✖ पांडित्य

3. ✖ अहंकार

4. ✖ पराया

Question Number : 164 Question Id : 54592713497 Question Type : MCQ Option Shuffling : Yes Display Question Number : Yes
Single Line Question Option : No Option Orientation : Vertical

Correct Marks : 1 Wrong Marks : 0.25

निम्नलिखित प्रश्न में, चार विकल्पों में से, उस विकल्प का चयन करें जो कोष्ठक में दिए गए शब्द के अनुसार सर्वनाम के भेद का सही विकल्प हो।

(वे) चंचल बच्चे बहुत प्यारे लगते हैं।

Options :

1. ✗ संबंधवाचक सर्वनाम
2. ✗ अनिश्चयवाचक सर्वनाम
3. ✗ प्रश्नवाचक सर्वनाम
4. ✓ निश्चय वाचक सर्वनाम

Question Number : 164 Question Id : 54592713497 Question Type : MCQ Option Shuffling : Yes Display Question Number : Yes
Single Line Question Option : No Option Orientation : Vertical

Correct Marks : 1 Wrong Marks : 0.25

निम्नलिखित प्रश्न में, चार विकल्पों में से, उस विकल्प का चयन करें जो कोष्ठक में दिए गए शब्द के अनुसार सर्वनाम के भेद का सही विकल्प हो।

(वे) चंचल बच्चे बहुत प्यारे लगते हैं।

Options :

1. ✗ संबंधवाचक सर्वनाम
2. ✗ अनिश्चयवाचक सर्वनाम
3. ✗ प्रश्नवाचक सर्वनाम
4. ✓ निश्चय वाचक सर्वनाम

Question Number : 165 Question Id : 54592713498 Question Type : MCQ Option Shuffling : Yes Display Question Number : Yes
Single Line Question Option : No Option Orientation : Vertical

Correct Marks : 1 Wrong Marks : 0.25

निम्नलिखित प्रश्न में, चार विकल्पों में से, उस विकल्प का चयन करें जो दिए गए वाक्य के अनुसार विशेषण के भेद वाला सही विकल्प हो।

मैदान में चार लड़के खड़े हैं।

Options :

1. ✓ संख्यावाचक
2. ✗ परिमाणवाचक
3. ✗ गुणवाचक
4. ✗ सार्वनामिक

Question Number : 165 Question Id : 54592713498 Question Type : MCQ Option Shuffling : Yes Display Question Number : Yes
Single Line Question Option : No Option Orientation : Vertical

Correct Marks : 1 Wrong Marks : 0.25

निम्नलिखित प्रश्न में, चार विकल्पों में से, उस विकल्प का चयन करें जो दिए गए वाक्य के अनुसार विशेषण के भेद वाला सही विकल्प हो।

मैदान में चार लड़के खड़े हैं।

Options :

1. ✓ संख्यावाचक
2. ✗ परिमाणवाचक
3. ✗ गुणवाचक
4. ✗ सार्वनामिक

Question Number : 166 Question Id : 54592713499 Question Type : MCQ Option Shuffling : Yes Display Question Number : Yes
Single Line Question Option : No Option Orientation : Vertical

Correct Marks : 1 Wrong Marks : 0.25

निम्नलिखित प्रश्न में, चार विकल्पों में से, उस विकल्प का चयन करें जो दिए गए शब्द के पर्यायवाची शब्द का सही विकल्प नहीं है।

पंडित

Options :

1. ❌ मनीषी
2. ❌ विज्ञ
3. ✅ पयोधर
4. ❌ कोविद

Question Number : 166 Question Id : 54592713499 Question Type : MCQ Option Shuffling : Yes Display Question Number : Yes
Single Line Question Option : No Option Orientation : Vertical

Correct Marks : 1 Wrong Marks : 0.25

निम्नलिखित प्रश्न में, चार विकल्पों में से, उस विकल्प का चयन करें जो दिए गए शब्द के पर्यायवाची शब्द का सही विकल्प नहीं है।

पंडित

Options :

1. ❌ मनीषी
2. ❌ विज्ञ
3. ✅ पयोधर
4. ❌ कोविद

Question Number : 167 Question Id : 54592713500 Question Type : MCQ Option Shuffling : Yes Display Question Number : Yes
Single Line Question Option : No Option Orientation : Vertical

Correct Marks : 1 Wrong Marks : 0.25

निम्नलिखित प्रश्न में, चार विकल्पों में से, उस विकल्प का चयन करें जो दिए गए शब्द के पर्यायवाची शब्द का सही विकल्प नहीं है।

अग्नि

Options :

1. ✅ सलिल
2. ❌ कृशानु
3. ❌ हुताशन
4. ❌ वह्नि

Question Number : 167 Question Id : 54592713500 Question Type : MCQ Option Shuffling : Yes Display Question Number : Yes
Single Line Question Option : No Option Orientation : Vertical

Correct Marks : 1 Wrong Marks : 0.25

निम्नलिखित प्रश्न में, चार विकल्पों में से, उस विकल्प का चयन करें जो दिए गए शब्द के पर्यायवाची शब्द का सही विकल्प नहीं है।

अग्नि

Options :

1. ✅ सलिल
2. ❌ कृशानु
3. ❌ हुताशन
4. ❌ वह्नि

Question Number : 168 Question Id : 54592713501 Question Type : MCQ Option Shuffling : Yes Display Question Number : Yes
Single Line Question Option : No Option Orientation : Vertical

Correct Marks : 1 Wrong Marks : 0.25

निम्नलिखित प्रश्न में, चार विकल्पों में से, उस विकल्प का चयन करें जो दिए गए शब्द के विलोम शब्द का सही विकल्प है।

धृष्ट

Options :

1. ✖ शहरी
2. ✔ विनीत
3. ✖ बदमाश
4. ✖ असभ्य

Question Number : 168 Question Id : 54592713501 Question Type : MCQ Option Shuffling : Yes Display Question Number : Yes
Single Line Question Option : No Option Orientation : Vertical

Correct Marks : 1 Wrong Marks : 0.25

निम्नलिखित प्रश्न में, चार विकल्पों में से, उस विकल्प का चयन करें जो दिए गए शब्द के विलोम शब्द का सही विकल्प है।

धृष्ट

Options :

1. ✖ शहरी
2. ✔ विनीत
3. ✖ बदमाश
4. ✖ असभ्य

Question Number : 169 Question Id : 54592713502 Question Type : MCQ Option Shuffling : Yes Display Question Number : Yes
Single Line Question Option : No Option Orientation : Vertical

Correct Marks : 1 Wrong Marks : 0.25

निम्नलिखित प्रश्न में, चार विकल्पों में से, उस विकल्प का चयन करें जो दिए गए शब्द के विलोम शब्द का सही विकल्प है।

कुटिल

Options :

1. ✖ कष्ट
2. ✖ कठोर
3. ✖ कृपा
4. ✔ सरल

Question Number : 169 Question Id : 54592713502 Question Type : MCQ Option Shuffling : Yes Display Question Number : Yes
Single Line Question Option : No Option Orientation : Vertical

Correct Marks : 1 Wrong Marks : 0.25

निम्नलिखित प्रश्न में, चार विकल्पों में से, उस विकल्प का चयन करें जो दिए गए शब्द के विलोम शब्द का सही विकल्प है।

कुटिल

Options :

1. ✖ कष्ट
2. ✖ कठोर
3. ✖ कृपा
4. ✔ सरल

Question Number : 170 Question Id : 54592713503 Question Type : MCQ Option Shuffling : Yes Display Question Number : Yes
Single Line Question Option : No Option Orientation : Vertical

Correct Marks : 1 Wrong Marks : 0.25

निम्नलिखित प्रश्न में, चार विकल्पों में से, उस सही विकल्प का चयन करें जो दिए गए शब्द-युग्म के अर्थ का सही विकल्प हो।

संप्रति-संप्राप्ति

Options :

1. ✖ धन और प्राप्त
2. ✔ अब और प्राप्त
3. ✖ सभा और प्राप्त
4. ✖ अब और राय

Question Number : 170 Question Id : 54592713503 Question Type : MCQ Option Shuffling : Yes Display Question Number : Yes
Single Line Question Option : No Option Orientation : Vertical

Correct Marks : 1 Wrong Marks : 0.25

निम्नलिखित प्रश्न में, चार विकल्पों में से, उस सही विकल्प का चयन करें जो दिए गए शब्द-युग्म के अर्थ का सही विकल्प हो।

संप्रति-संप्राप्ति

Options :

1. ✖ धन और प्राप्त
2. ✔ अब और प्राप्त
3. ✖ सभा और प्राप्त
4. ✖ अब और राय

Question Number : 171 Question Id : 54592713504 Question Type : MCQ Option Shuffling : Yes Display Question Number : Yes
Single Line Question Option : No Option Orientation : Vertical

Correct Marks : 1 Wrong Marks : 0.25

निम्नलिखित प्रश्न में, चार विकल्पों में से, उस विकल्प का चयन करें जो दिए गए वाक्यांश के लिए एक शब्द का सही विकल्प है।

बिना पलक झपकाए

Options :

1. ✖ निर्माण
2. ✖ निर्मम
3. ✖ निर्जन
4. ✔ निर्निमेष

Question Number : 171 Question Id : 54592713504 Question Type : MCQ Option Shuffling : Yes Display Question Number : Yes
Single Line Question Option : No Option Orientation : Vertical

Correct Marks : 1 Wrong Marks : 0.25

निम्नलिखित प्रश्न में, चार विकल्पों में से, उस विकल्प का चयन करें जो दिए गए वाक्यांश के लिए एक शब्द का सही विकल्प है।

बिना पलक झपकाए

Options :

1. ✖ निर्माण
2. ✖ निर्मम
3. ✖ निर्जन
4. ✔ निर्निमेष

Question Number : 172 Question Id : 54592713505 Question Type : MCQ Option Shuffling : Yes Display Question Number : Yes
Single Line Question Option : No Option Orientation : Vertical

Correct Marks : 1 Wrong Marks : 0.25

निम्नलिखित प्रश्न में, चार विकल्पों में से, उस सही विकल्प का चयन करें जो रिक्त स्थान के लिए उचित विकल्प हो।

समुंद्र के पास जाते ही _____ थकान गायब हो जाती है।

Options :

1. ✓ आधी
2. ✗ आधि
3. ✗ आँधी
4. ✗ अधि

Question Number : 172 Question Id : 54592713505 Question Type : MCQ Option Shuffling : Yes Display Question Number : Yes
Single Line Question Option : No Option Orientation : Vertical

Correct Marks : 1 Wrong Marks : 0.25

निम्नलिखित प्रश्न में, चार विकल्पों में से, उस सही विकल्प का चयन करें जो रिक्त स्थान के लिए उचित विकल्प हो।

समुंद्र के पास जाते ही _____ थकान गायब हो जाती है।

Options :

1. ✓ आधी
2. ✗ आधि
3. ✗ आँधी
4. ✗ अधि

Question Number : 173 Question Id : 54592713506 Question Type : MCQ Option Shuffling : Yes Display Question Number : Yes
Single Line Question Option : No Option Orientation : Vertical

Correct Marks : 1 Wrong Marks : 0.25

निम्नलिखित प्रश्न में, चार विकल्पों में से, उस विकल्प का चयन करें जो दिए गए शब्द के समानार्थी शब्द का विकल्प नहीं है।

प्राज्ञ

Options :

1. ✗ महाज्ञानी
2. ✗ चतुर
3. ✓ अवमति
4. ✗ विद्वान

Question Number : 173 Question Id : 54592713506 Question Type : MCQ Option Shuffling : Yes Display Question Number : Yes
Single Line Question Option : No Option Orientation : Vertical

Correct Marks : 1 Wrong Marks : 0.25

निम्नलिखित प्रश्न में, चार विकल्पों में से, उस विकल्प का चयन करें जो दिए गए शब्द के समानार्थी शब्द का विकल्प नहीं है।

प्राज्ञ

Options :

1. ✗ महाज्ञानी
2. ✗ चतुर
3. ✓ अवमति
4. ✗ विद्वान

Question Number : 174 Question Id : 54592713507 Question Type : MCQ Option Shuffling : Yes Display Question Number : Yes
Single Line Question Option : No Option Orientation : Vertical

Correct Marks : 1 Wrong Marks : 0.25

निम्नलिखित प्रश्न में, चार विकल्पों में से, उस सही विकल्प का चयन करें जो रिक्त स्थान के लिए उपयुक्त शब्द का सही विकल्प है।

वहाँ सब प्रकार की _____ उपलब्ध हैं।

Options :

1. ✖ वस्तु
2. ✔ वस्तुएँ
3. ✖ वस्तुओं
4. ✖ वस्तुयों

Question Number : 174 Question Id : 54592713507 Question Type : MCQ Option Shuffling : Yes Display Question Number : Yes
Single Line Question Option : No Option Orientation : Vertical

Correct Marks : 1 Wrong Marks : 0.25

निम्नलिखित प्रश्न में, चार विकल्पों में से, उस सही विकल्प का चयन करें जो रिक्त स्थान के लिए उपयुक्त शब्द का सही विकल्प है।

वहाँ सब प्रकार की _____ उपलब्ध हैं।

Options :

1. ✖ वस्तु
2. ✔ वस्तुएँ
3. ✖ वस्तुओं
4. ✖ वस्तुयों

Question Number : 175 Question Id : 54592713508 Question Type : MCQ Option Shuffling : Yes Display Question Number : Yes
Single Line Question Option : No Option Orientation : Vertical

Correct Marks : 1 Wrong Marks : 0.25

निम्नलिखित प्रश्न में, चार विकल्पों में से, उस विकल्प का चयन करें जो शुद्ध शब्द का सही विकल्प है।

Options :

1. ✖ अशतासिद्धि
2. ✖ अस्तासीद्धि
3. ✔ अष्टसिद्धि
4. ✖ अस्तासिद्धि

Question Number : 175 Question Id : 54592713508 Question Type : MCQ Option Shuffling : Yes Display Question Number : Yes
Single Line Question Option : No Option Orientation : Vertical

Correct Marks : 1 Wrong Marks : 0.25

निम्नलिखित प्रश्न में, चार विकल्पों में से, उस विकल्प का चयन करें जो शुद्ध शब्द का सही विकल्प है।

Options :

1. ✖ अशतासिद्धि
2. ✖ अस्तासीद्धि
3. ✔ अष्टसिद्धि
4. ✖ अस्तासिद्धि

Question Number : 176 Question Id : 54592713509 Question Type : MCQ Option Shuffling : Yes Display Question Number : Yes
Single Line Question Option : No Option Orientation : Vertical

Correct Marks : 1 Wrong Marks : 0.25

निम्नलिखित प्रश्न में, चार विकल्पों में से, उस विकल्प का चयन करें जो सदा स्त्रीलिंग वाला शब्द है।

Options :

1. ✖ इटली
2. ✖ अप्रैल
3. ✔ घृणा

4. ✖ बनावट

Question Number : 176 Question Id : 54592713509 Question Type : MCQ Option Shuffling : Yes Display Question Number : Yes
Single Line Question Option : No Option Orientation : Vertical

Correct Marks : 1 Wrong Marks : 0.25

निम्नलिखित प्रश्न में, चार विकल्पों में से, उस विकल्प का चयन करें जो सदा स्त्रीलिंग वाला शब्द है।

Options :

1. ✖ इटली
2. ✖ अप्रैल
3. ✔ घृणा
4. ✖ बनावट

Question Number : 177 Question Id : 54592713510 Question Type : MCQ Option Shuffling : Yes Display Question Number : Yes
Single Line Question Option : No Option Orientation : Vertical

Correct Marks : 1 Wrong Marks : 0.25

निम्नलिखित प्रश्न में, चार विकल्पों में से, उस विकल्प का चयन करें जो दिए गए शब्द का स्त्रीलिंग शब्द वाला विकल्प है।

चौधरी

Options :

1. ✖ चौधरी
2. ✖ चौधारिन
3. ✖ चौधरीन
4. ✔ चौधराइन

Question Number : 177 Question Id : 54592713510 Question Type : MCQ Option Shuffling : Yes Display Question Number : Yes
Single Line Question Option : No Option Orientation : Vertical

Correct Marks : 1 Wrong Marks : 0.25

निम्नलिखित प्रश्न में, चार विकल्पों में से, उस विकल्प का चयन करें जो दिए गए शब्द का स्त्रीलिंग शब्द वाला विकल्प है।

चौधरी

Options :

1. ✖ चौधरी
2. ✖ चौधारिन
3. ✖ चौधरीन
4. ✔ चौधराइन

Question Number : 178 Question Id : 54592713511 Question Type : MCQ Option Shuffling : Yes Display Question Number : Yes
Single Line Question Option : No Option Orientation : Vertical

Correct Marks : 1 Wrong Marks : 0.25

निम्नलिखित प्रश्न में, चार विकल्पों में से, उस विकल्प का चयन करें जो सदा बहुवचन शब्द का सबसे अच्छा विकल्प है।

Options :

1. ✔ अंगूठा
2. ✖ सहायता
3. ✖ सत्य
4. ✖ व्यथा

Question Number : 178 Question Id : 54592713511 Question Type : MCQ Option Shuffling : Yes Display Question Number : Yes
Single Line Question Option : No Option Orientation : Vertical

Correct Marks : 1 Wrong Marks : 0.25

निम्नलिखित प्रश्न में, चार विकल्पों में से, उस विकल्प का चयन करें जो सदा बहुवचन शब्द का सबसे अच्छा विकल्प है।

Options :

1. ☒ अंगूठा
2. ☐ सहायता
3. ☐ सत्य
4. ☐ व्यथा

Question Number : 179 Question Id : 54592713512 Question Type : MCQ Option Shuffling : Yes Display Question Number : Yes
Single Line Question Option : No Option Orientation : Vertical

Correct Marks : 1 Wrong Marks : 0.25

निम्नलिखित प्रश्न में, चार विकल्पों में से, उस विकल्प का चयन करें जो दिए गए शब्द के बहुवचन शब्द का सबसे अच्छा विकल्प है।

आँख

Options :

1. ☐ आँखे
2. ☒ आँखें
3. ☐ आखें
4. ☐ आखों

Question Number : 179 Question Id : 54592713512 Question Type : MCQ Option Shuffling : Yes Display Question Number : Yes
Single Line Question Option : No Option Orientation : Vertical

Correct Marks : 1 Wrong Marks : 0.25

निम्नलिखित प्रश्न में, चार विकल्पों में से, उस विकल्प का चयन करें जो दिए गए शब्द के बहुवचन शब्द का सबसे अच्छा विकल्प है।

आँख

Options :

1. ☐ आँखे
2. ☒ आँखें
3. ☐ आखें
4. ☐ आखों

Question Number : 180 Question Id : 54592713513 Question Type : MCQ Option Shuffling : Yes Display Question Number : Yes
Single Line Question Option : No Option Orientation : Vertical

Correct Marks : 1 Wrong Marks : 0.25

निम्नलिखित प्रश्न में, चार विकल्पों में से, उस विकल्प का चयन करें जो कोष्ठक में दिए गए शब्द के अनुसार मध्यम पुरुषवाचक सर्वनाम का सही विकल्प हो।

Options :

1. ☐ (हम) नदी किनारे जा रहे हैं।
2. ☐ (वह) मेरा मित्र नहीं है।
3. ☐ (मैंने) अपनी सफलता के लिए बहुत मेहनत की है।
4. ☒ (तुम) लगता है गलतफहमी में हो।

Question Number : 180 Question Id : 54592713513 Question Type : MCQ Option Shuffling : Yes Display Question Number : Yes
Single Line Question Option : No Option Orientation : Vertical

Correct Marks : 1 Wrong Marks : 0.25

निम्नलिखित प्रश्न में, चार विकल्पों में से, उस विकल्प का चयन करें जो कोष्ठक में दिए गए शब्द के अनुसार मध्यम पुरुषवाचक सर्वनाम का सही विकल्प हो।

Options :

1. ☐ (हम) नदी किनारे जा रहे हैं।
2. ☐ (वह) मेरा मित्र नहीं है।
3. ☐ (मैंने) अपनी सफलता के लिए बहुत मेहनत की है।
4. ☒ (तुम) लगता है गलतफहमी में हो।

General Hindi2

Group Number :	10
Group Id :	545927670
Group Maximum Duration :	0
Group Minimum Duration :	120
Revisit allowed for view? :	No
Revisit allowed for edit? :	No
Break time:	0
Group Marks:	20
Revisit allowed for group Instructions? :	Yes
Maximum Instruction Time:	0
Minimum Instruction Time:	0

General Hindi2

Section Id :	545927670
Section Number :	1
Section type :	Online
Mandatory or Optional:	Mandatory
Number of Questions:	16
Number of Questions to be attempted:	16
Section Marks:	20
Display Number Panel:	Yes
Group All Questions:	No

Sub-Section Number:	1
Sub-Section Id:	545927803
Question Shuffling Allowed :	Yes


Question Number : 181 Question Id : 54592713514 Question Type : MCQ Option Shuffling : Yes Display Question Number : Yes
Single Line Question Option : No Option Orientation : Vertical

Correct Marks : 1 Wrong Marks : 0.25

निम्नलिखित प्रश्न में, चार विकल्पों में से, उस विकल्प का चयन करें जो दिए गए वाक्य के काल के भेद का सही विकल्प हो।

यदि वर्षा न होती, तो मेरा काम पूरा हो जाता।

Options :

- 1.  हेतुहेतु मद भूतकाल
- 2.  आसन्न भूतकाल
- 3.  अपूर्ण भूतकाल
- 4.  हेतुहेतुमद भविष्यत् काल

Question Number : 181 Question Id : 54592713514 Question Type : MCQ Option Shuffling : Yes Display Question Number : Yes
Single Line Question Option : No Option Orientation : Vertical

Correct Marks : 1 Wrong Marks : 0.25

निम्नलिखित प्रश्न में, चार विकल्पों में से, उस विकल्प का चयन करें जो दिए गए वाक्य के काल के भेद का सही विकल्प हो।

यदि वर्षा न होती, तो मेरा काम पूरा हो जाता।

Options :

1. ✓ हेतुहेतु मद भूतकाल
2. ✗ आसन्न भूतकाल
3. ✗ अपूर्ण भूतकाल
4. ✗ हेतुहेतुमद भविष्यत् काल

Question Number : 182 Question Id : 54592713515 Question Type : MCQ Option Shuffling : Yes Display Question Number : Yes
Single Line Question Option : No Option Orientation : Vertical

Correct Marks : 1 Wrong Marks : 0.25

निम्नलिखित प्रश्न में, चार विकल्पों में से, उस विकल्प का चयन करें जो दिए गए वाक्य के लिए वृत्ति के भेद का सबसे अच्छा विकल्प है।

वह खेलने गया होगा।

Options :

1. ✗ विध्यर्थ
2. ✗ संकेतार्थ
3. ✓ संदेहार्थ
4. ✗ निश्चयार्थ

Question Number : 182 Question Id : 54592713515 Question Type : MCQ Option Shuffling : Yes Display Question Number : Yes
Single Line Question Option : No Option Orientation : Vertical

Correct Marks : 1 Wrong Marks : 0.25

निम्नलिखित प्रश्न में, चार विकल्पों में से, उस विकल्प का चयन करें जो दिए गए वाक्य के लिए वृत्ति के भेद का सबसे अच्छा विकल्प है।

वह खेलने गया होगा।

Options :

1. ✗ विध्यर्थ
2. ✗ संकेतार्थ
3. ✓ संदेहार्थ
4. ✗ निश्चयार्थ

Question Number : 183 Question Id : 54592713516 Question Type : MCQ Option Shuffling : Yes Display Question Number : Yes
Single Line Question Option : No Option Orientation : Vertical

Correct Marks : 1 Wrong Marks : 0.25

निम्नलिखित प्रश्न में, चार विकल्पों में से, उस विकल्प का चयन करें जो दिए गए वाक्य के लिए पक्ष के भेद का सबसे अच्छा विकल्प है।

वह दिन भर अभ्यास करता था तभी मैच जीत गया।

Options :

1. ✗ सातप्यबोधक
2. ✗ नित्यताद्योतक
3. ✗ प्रगतिद्योतक
4. ✓ अभ्यासद्योतक

Question Number : 183 Question Id : 54592713516 Question Type : MCQ Option Shuffling : Yes Display Question Number : Yes
Single Line Question Option : No Option Orientation : Vertical

Correct Marks : 1 Wrong Marks : 0.25

निम्नलिखित प्रश्न में, चार विकल्पों में से, उस विकल्प का चयन करें जो दिए गए वाक्य के लिए पक्ष के भेद का सबसे अच्छा विकल्प है।

वह दिन भर अभ्यास करता था तभी मैच जीत गया।

Options :

1. ✗ सातप्यबोधक
2. ✗ नित्यताद्योतक

3. ✖ प्रगतिद्योतक
4. ✔ अभ्यासद्योतक

Question Number : 184 Question Id : 54592713517 Question Type : MCQ Option Shuffling : Yes Display Question Number : Yes
Single Line Question Option : No Option Orientation : Vertical

Correct Marks : 1 Wrong Marks : 0.25

निम्न विकल्पों में से निर्देशानुसार वाच्य परिवर्तन का विकल्प चुनिए।

मैं ठंडा खाना खाई (कर्मवाच्य)

Options :

1. ✖ मैंने ठंडा खाना खाया
2. ✖ ठंडा खाना मैंने खाया
3. ✖ खाना ठंडा मैं खाई
4. ✔ मेरे द्वारा ठंडा खाना खाया गया

Question Number : 184 Question Id : 54592713517 Question Type : MCQ Option Shuffling : Yes Display Question Number : Yes
Single Line Question Option : No Option Orientation : Vertical

Correct Marks : 1 Wrong Marks : 0.25

निम्न विकल्पों में से निर्देशानुसार वाच्य परिवर्तन का विकल्प चुनिए।

मैं ठंडा खाना खाई (कर्मवाच्य)

Options :

1. ✖ मैंने ठंडा खाना खाया
2. ✖ ठंडा खाना मैंने खाया
3. ✖ खाना ठंडा मैं खाई
4. ✔ मेरे द्वारा ठंडा खाना खाया गया

Question Number : 185 Question Id : 54592713518 Question Type : MCQ Option Shuffling : Yes Display Question Number : Yes
Single Line Question Option : No Option Orientation : Vertical

Correct Marks : 1 Wrong Marks : 0.25

निम्नलिखित प्रश्न में, चार विकल्पों में से, उस विकल्प का चयन करें जो सही वाक्य भेद का विकल्प हो।

जैसे-जैसे मैं घर से दूर होता गया, वैसे-वैसे मेरा डर बढ़ता गया।

Options :

1. ✔ मिश्र वाक्य
2. ✖ संयुक्त वाक्य
3. ✖ निषेधवाचक वाक्य
4. ✖ सरल वाक्य

Question Number : 185 Question Id : 54592713518 Question Type : MCQ Option Shuffling : Yes Display Question Number : Yes
Single Line Question Option : No Option Orientation : Vertical

Correct Marks : 1 Wrong Marks : 0.25

निम्नलिखित प्रश्न में, चार विकल्पों में से, उस विकल्प का चयन करें जो सही वाक्य भेद का विकल्प हो।

जैसे-जैसे मैं घर से दूर होता गया, वैसे-वैसे मेरा डर बढ़ता गया।

Options :

1. ✔ मिश्र वाक्य
2. ✖ संयुक्त वाक्य
3. ✖ निषेधवाचक वाक्य
4. ✖ सरल वाक्य

Question Number : 186 Question Id : 54592713519 Question Type : MCQ Option Shuffling : Yes Display Question Number : Yes
Single Line Question Option : No Option Orientation : Vertical

Correct Marks : 1 Wrong Marks : 0.25

निम्नलिखित प्रश्न में, चार विकल्पों में से, उस विकल्प का चयन करें जो सही वाक्य भेद का विकल्प हो।

बाजार में कपड़े बाज़ार में बहुत महंगे थे, इसलिए नहीं खरीदे।

Options :

1. ✖ सरल वाक्य
2. ✖ मिश्र वाक्य
3. ✔ संयुक्त वाक्य
4. ✖ संकेतवाचक वाक्य

Question Number : 186 Question Id : 54592713519 Question Type : MCQ Option Shuffling : Yes Display Question Number : Yes
Single Line Question Option : No Option Orientation : Vertical

Correct Marks : 1 Wrong Marks : 0.25

निम्नलिखित प्रश्न में, चार विकल्पों में से, उस विकल्प का चयन करें जो सही वाक्य भेद का विकल्प हो।

बाजार में कपड़े बाज़ार में बहुत महंगे थे, इसलिए नहीं खरीदे।

Options :

1. ✖ सरल वाक्य
2. ✖ मिश्र वाक्य
3. ✔ संयुक्त वाक्य
4. ✖ संकेतवाचक वाक्य

Question Number : 187 Question Id : 54592713520 Question Type : MCQ Option Shuffling : Yes Display Question Number : Yes
Single Line Question Option : No Option Orientation : Vertical

Correct Marks : 1 Wrong Marks : 0.25

निम्नलिखित प्रश्न में, चार विकल्पों में से, उस विकल्प का चयन करें जो सही वाक्य भेद का विकल्प हो।

हम कही नहीं जा सकते हैं।

Options :

1. ✖ विधानवाचक वाक्य
2. ✔ सरल वाक्य
3. ✖ मिश्र वाक्य
4. ✖ संयुक्त वाक्य

Question Number : 187 Question Id : 54592713520 Question Type : MCQ Option Shuffling : Yes Display Question Number : Yes
Single Line Question Option : No Option Orientation : Vertical

Correct Marks : 1 Wrong Marks : 0.25

निम्नलिखित प्रश्न में, चार विकल्पों में से, उस विकल्प का चयन करें जो सही वाक्य भेद का विकल्प हो।

हम कही नहीं जा सकते हैं।

Options :

1. ✖ विधानवाचक वाक्य
2. ✔ सरल वाक्य
3. ✖ मिश्र वाक्य
4. ✖ संयुक्त वाक्य

Question Number : 188 Question Id : 54592713521 Question Type : MCQ Option Shuffling : Yes Display Question Number : Yes
Single Line Question Option : No Option Orientation : Vertical

Correct Marks : 1 Wrong Marks : 0.25

निम्नलिखित प्रश्न में, चार विकल्पों में से, उस विकल्प का चयन करें जो विराम चिह्न युक्त वाक्य का सही विकल्प हो।

Options :

1. ✗ क्या! रास्ते में, डाकू मिलते हैं?
2. ✗ क्या रास्ते में डाकू मिलते हैं।
3. ✓ क्या रास्ते में डाकू मिलते हैं?
4. ✗ क्या रास्ते में डाकू, मिलते हैं?

Question Number : 188 Question Id : 54592713521 Question Type : MCQ Option Shuffling : Yes Display Question Number : Yes
Single Line Question Option : No Option Orientation : Vertical

Correct Marks : 1 Wrong Marks : 0.25

निम्नलिखित प्रश्न में, चार विकल्पों में से, उस विकल्प का चयन करें जो विराम चिह्न युक्त वाक्य का सही विकल्प हो।

Options :

1. ✗ क्या! रास्ते में, डाकू मिलते हैं?
2. ✗ क्या रास्ते में डाकू मिलते हैं।
3. ✓ क्या रास्ते में डाकू मिलते हैं?
4. ✗ क्या रास्ते में डाकू, मिलते हैं?

Question Number : 189 Question Id : 54592713522 Question Type : MCQ Option Shuffling : Yes Display Question Number : Yes
Single Line Question Option : No Option Orientation : Vertical

Correct Marks : 1 Wrong Marks : 0.25

निम्नलिखित प्रश्न में, चार विकल्पों में से, उस विकल्प का चयन करें जो विराम चिह्न युक्त वाक्य का सही विकल्प हो।

Options :

1. ✗ संज्ञा के भेद हैं:- व्यक्तिवाचक जातिवाचक भाववाचक आदि।
2. ✗ संज्ञा के भेद हैं व्यक्तिवाचक, जातिवाचक, भाववाचक आदि
3. ✗ संज्ञा के भेद हैं, व्यक्तिवाचक, जातिवाचक भाववाचक आदि।
4. ✓ संज्ञा के भेद हैं:- व्यक्तिवाचक, जातिवाचक, भाववाचक आदि।

Question Number : 189 Question Id : 54592713522 Question Type : MCQ Option Shuffling : Yes Display Question Number : Yes
Single Line Question Option : No Option Orientation : Vertical

Correct Marks : 1 Wrong Marks : 0.25

निम्नलिखित प्रश्न में, चार विकल्पों में से, उस विकल्प का चयन करें जो विराम चिह्न युक्त वाक्य का सही विकल्प हो।

Options :

1. ✗ संज्ञा के भेद हैं:- व्यक्तिवाचक जातिवाचक भाववाचक आदि।
2. ✗ संज्ञा के भेद हैं व्यक्तिवाचक, जातिवाचक, भाववाचक आदि
3. ✗ संज्ञा के भेद हैं, व्यक्तिवाचक, जातिवाचक भाववाचक आदि।
4. ✓ संज्ञा के भेद हैं:- व्यक्तिवाचक, जातिवाचक, भाववाचक आदि।

Question Number : 190 Question Id : 54592713523 Question Type : MCQ Option Shuffling : Yes Display Question Number : Yes
Single Line Question Option : No Option Orientation : Vertical

Correct Marks : 1 Wrong Marks : 0.25

निम्नलिखित प्रश्न में, चार विकल्पों में से, उस विकल्प का चयन करें जो दिए गए मुहावरे के लिए सही अर्थ वाला विकल्प है।

अंग मोड़ना

Options :

1. ✗ शरीर दुखाना
2. ✓ पीछे हटना
3. ✗ दर्द देना
4. ✗ चोट लगना

Question Number : 190 Question Id : 54592713523 Question Type : MCQ Option Shuffling : Yes Display Question Number : Yes
Single Line Question Option : No Option Orientation : Vertical

Correct Marks : 1 Wrong Marks : 0.25

निम्नलिखित प्रश्न में, चार विकल्पों में से, उस विकल्प का चयन करें जो दिए गए मुहावरे के लिए सही अर्थ वाला विकल्प है।

अंग मोड़ना

Options :

1. ✖ शरीर दुखाना
2. ✔ पीछे हटना
3. ✖ दर्द देना
4. ✖ चोट लगना

Question Number : 191 Question Id : 54592713524 Question Type : MCQ Option Shuffling : Yes Display Question Number : Yes
Single Line Question Option : No Option Orientation : Vertical

Correct Marks : 1 Wrong Marks : 0.25

निम्नलिखित प्रश्न में, चार विकल्पों में से, उस विकल्प का चयन करें जो दिए गए मुहावरे के लिए सही अर्थ वाला विकल्प है।

अँधेरे घर का उजाला

Options :

1. ✔ इकलौता पुत्र
2. ✖ दीपक जलाना
3. ✖ अँधेरा भगाना
4. ✖ प्रिय लगना

Question Number : 191 Question Id : 54592713524 Question Type : MCQ Option Shuffling : Yes Display Question Number : Yes
Single Line Question Option : No Option Orientation : Vertical

Correct Marks : 1 Wrong Marks : 0.25

निम्नलिखित प्रश्न में, चार विकल्पों में से, उस विकल्प का चयन करें जो दिए गए मुहावरे के लिए सही अर्थ वाला विकल्प है।

अँधेरे घर का उजाला

Options :

1. ✔ इकलौता पुत्र
2. ✖ दीपक जलाना
3. ✖ अँधेरा भगाना
4. ✖ प्रिय लगना

Question Number : 192 Question Id : 54592713525 Question Type : MCQ Option Shuffling : Yes Display Question Number : Yes
Single Line Question Option : No Option Orientation : Vertical

Correct Marks : 1 Wrong Marks : 0.25

निम्नलिखित प्रश्न में, चार विकल्पों में से, उस विकल्प का चयन करें जो दिए गए मुहावरे के लिए सही अर्थ वाला विकल्प है।

अकल के पीछे लट्टू लिए घूमना

Options :

1. ✖ दूसरों को डरना
2. ✔ मूर्खतापूर्ण कार्य करना
3. ✖ स्वयं को बहुत बुद्धिमान समझना
4. ✖ झगड़ने को तत्पर

Question Number : 192 Question Id : 54592713525 Question Type : MCQ Option Shuffling : Yes Display Question Number : Yes
Single Line Question Option : No Option Orientation : Vertical

Correct Marks : 1 Wrong Marks : 0.25

निम्नलिखित प्रश्न में, चार विकल्पों में से, उस विकल्प का चयन करें जो दिए गए मुहावरे के लिए सही अर्थ वाला विकल्प है।

अकल के पीछे लट्टू लिए घूमना

Options :

1. ✖ दूसरों को डरना
2. ✔ मुखतापूर्ण कार्य करना
3. ✖ स्वयं को बहुत बुद्धिमान समझना
4. ✖ झगड़ने को तत्पर

Question Number : 193 Question Id : 54592713526 Question Type : MCQ Option Shuffling : Yes Display Question Number : Yes
Single Line Question Option : No Option Orientation : Vertical

Correct Marks : 1 Wrong Marks : 0.25

निम्नलिखित प्रश्न में, चार विकल्पों में से, उस विकल्प का चयन करें जो दी गई लोकोक्ति के लिए सही अर्थ वाला विकल्प है।

अंधे के आगे रोए, अपने नैन खोए

Options :

1. ✖ अपना ही नुकसान करना
2. ✖ भीख मांगना
3. ✔ स्वार्थी या अत्याचारी व्यक्ति को अपना दुःख सुनाना व्यर्थ है
4. ✖ अपनी इज्जत गवांन

Question Number : 193 Question Id : 54592713526 Question Type : MCQ Option Shuffling : Yes Display Question Number : Yes
Single Line Question Option : No Option Orientation : Vertical

Correct Marks : 1 Wrong Marks : 0.25

निम्नलिखित प्रश्न में, चार विकल्पों में से, उस विकल्प का चयन करें जो दी गई लोकोक्ति के लिए सही अर्थ वाला विकल्प है।

अंधे के आगे रोए, अपने नैन खोए

Options :

1. ✖ अपना ही नुकसान करना
2. ✖ भीख मांगना
3. ✔ स्वार्थी या अत्याचारी व्यक्ति को अपना दुःख सुनाना व्यर्थ है
4. ✖ अपनी इज्जत गवांन

Question Number : 194 Question Id : 54592713527 Question Type : MCQ Option Shuffling : Yes Display Question Number : Yes
Single Line Question Option : No Option Orientation : Vertical

Correct Marks : 1 Wrong Marks : 0.25

निम्नलिखित प्रश्न में, चार विकल्पों में से, उस विकल्प का चयन करें जो दी गई लोकोक्ति के लिए सही अर्थ वाला विकल्प है।

उँगली पकड़कर पहुँचा पकड़ना

Options :

1. ✖ मदद करना
2. ✖ दोषी का निर्दोष पर अकड़ना
3. ✖ ज्यादा हासिल करना
4. ✔ थोड़ा सहारा पाकर अधिक पर दावा करना

Question Number : 194 Question Id : 54592713527 Question Type : MCQ Option Shuffling : Yes Display Question Number : Yes
Single Line Question Option : No Option Orientation : Vertical

Correct Marks : 1 Wrong Marks : 0.25

निम्नलिखित प्रश्न में, चार विकल्पों में से, उस विकल्प का चयन करें जो दी गई लोकोक्ति के लिए सही अर्थ वाला विकल्प है।

उँगली पकड़कर पहुँचा पकड़ना

Options :

1. ✗ मदद करना
2. ✗ दोषी का निर्दोष पर अकड़ना
3. ✗ ज्यादा हासिल करना
4. ✓ थोड़ा सहारा पाकर अधिक पर दावा करना

Question Number : 195 Question Id : 54592713528 Question Type : MCQ Option Shuffling : Yes Display Question Number : Yes
Single Line Question Option : No Option Orientation : Vertical

Correct Marks : 1 Wrong Marks : 0.25

निम्नलिखित प्रश्न में, चार विकल्पों में से, उस सही विकल्प का चयन करें जो दी गई लोकोक्ति के लिए सही अर्थ वाला विकल्प है।

ओस चाटे प्यास नहीं बुझती

Options :

1. ✗ कम बरसात होना
2. ✗ जल समस्या होना
3. ✓ नाम मात्र की वस्तु से काम नहीं चलता
4. ✗ भूखा रहना

Question Number : 195 Question Id : 54592713528 Question Type : MCQ Option Shuffling : Yes Display Question Number : Yes
Single Line Question Option : No Option Orientation : Vertical

Correct Marks : 1 Wrong Marks : 0.25

निम्नलिखित प्रश्न में, चार विकल्पों में से, उस सही विकल्प का चयन करें जो दी गई लोकोक्ति के लिए सही अर्थ वाला विकल्प है।

ओस चाटे प्यास नहीं बुझती

Options :

1. ✗ कम बरसात होना
2. ✗ जल समस्या होना
3. ✓ नाम मात्र की वस्तु से काम नहीं चलता
4. ✗ भूखा रहना

Sub-Section Number: 2
Sub-Section Id: 545927804
Question Shuffling Allowed : Yes

Question Id : 54592713529 Question Type : COMPREHENSION Sub Question Shuffling Allowed : Yes Group Comprehension Questions : No

Question Numbers : (196 to 200)

Question Label : Comprehension

नीचे दिए गए गद्यांश को ध्यानपूर्वक पढ़ें और दिए गए प्रश्न के सर्वोत्तम उत्तर चुनें।

बातचीत का भी एक विशेष प्रकार का आनंद होता है। जिनको इस आनंद को भोगने की आदत पड़ जाती है, वे इसके लिए अपना खाना-पीना तक छोड़ देते हैं, अपना और नुकसान कर लेते हैं, लेकिन बातचीत से प्राप्त आनंद को नहीं खोना चाहते। जिनसे केवल पत्र-व्यवहार है, कभी एक बार भी साक्षात्कार नहीं हुआ, उन्हें अपने प्रेमी से बात करने की अत्यधिक लालसा रहती है। अपने मन के भावों को दूसरों के सम्मुख प्रकट करने की दूसरों के अभिप्राय को स्वयं ग्रहण करने करने का एकमात्र साधन शब्द ही है। बेन जानसन का कथन उचित प्रतीत होता है कि "बोलने से ही मनुष्य के रूप का साक्षात्कार होता है।" एडिसन का मत है कि असल बातचीत सिर्फ दो में हो सकती है। जब तीन हुए तब वह दो की बात कोसों दूर चली जाती है। चार से अधिक की बातचीत केवल राम-रमौवल कहलाती है, इसलिए जब दो आदमी परस्पर बैठे बातें कर रहे हों और तीसरा वहाँ आ जाए तो वे दोनों निरस्त बैठ जाते हैं या फिर तीसरे को निपट मूर्ख और अज्ञानी समझ बनाने लगते हैं।

Sub questions

Question Number : 196 Question Id : 54592713530 Question Type : MCQ Option Shuffling : Yes Display Question Number : Yes
Single Line Question Option : No Option Orientation : Vertical

Correct Marks : 1 Wrong Marks : 0.25

बातचीत की आदत के कारण लोग कैसा व्यवहार करते हैं?

Options :

1. ☒ खाना-पीना छोड़ अपना नुकसान कर लेते हैं
2. ☐ सब-कुछ भूल जाते हैं
3. ☐ खाना-पीना त्याग देते हैं
4. ☐ परेशानी में रहकर भी जी लेते हैं

Question Number : 197 Question Id : 54592713531 Question Type : MCQ Option Shuffling : Yes Display Question Number : Yes
Single Line Question Option : No Option Orientation : Vertical

Correct Marks : 1 Wrong Marks : 0.25

शब्द किसका साधन है?

Options :

1. ☐ विचारों को लिपिबद्ध करने का
2. ☒ अपने भावों की अभिव्यक्ति और दूसरों को समझने का
3. ☐ भावों को समझाने का
4. ☐ पत्र-व्यवहार का

Question Number : 198 Question Id : 54592713532 Question Type : MCQ Option Shuffling : Yes Display Question Number : Yes
Single Line Question Option : No Option Orientation : Vertical

Correct Marks : 1 Wrong Marks : 0.25

असली बातचीत किसे मानी जाती है?

Options :

1. ☐ दो के साथ तीसरे के आने पर
2. ☐ दो या अधिक लोगों के बीच की
3. ☒ दो लोगों के बीच की
4. ☐ दो या अधिक आत्मीय लोगों के बीच की

Question Number : 199 Question Id : 54592713533 Question Type : MCQ Option Shuffling : Yes Display Question Number : Yes
Single Line Question Option : No Option Orientation : Vertical

Correct Marks : 1 Wrong Marks : 0.25

इनमें से कौन - सा अभिप्राय का पर्यायवाची नहीं है?

Options :

1. ☐ तात्पर्य
2. ☐ प्रयोजन
3. ☐ इरादा
4. ☒ अनर्थ

Question Number : 200 Question Id : 54592713534 Question Type : MCQ Option Shuffling : Yes Display Question Number : Yes
Single Line Question Option : No Option Orientation : Vertical

Correct Marks : 1 Wrong Marks : 0.25

निम्नलिखित में से कौनसा इस गद्यांश का यथोचित शीर्षक हो सकता है

Options :

1. ☐ दो के बीच बात
2. ☐ बातचीत की आदत

3. ☒ बातचीत का मज़ा
4. ☒ लोगों की बातचीत

Question Id : 54592713529 Question Type : COMPREHENSION Sub Question Shuffling Allowed : Yes Group Comprehension Questions : No

Question Numbers : (196 to 200)

Question Label : Comprehension

नीचे दिए गए गद्यांश को ध्यानपूर्वक पढ़ें और दिए गए प्रश्न के सर्वोत्तम उत्तर चुनें

बातचीत का भी एक विशेष प्रकार का आनंद होता है। जिनको इस आनंद को भोगने की आदत पड़ जाती है, वे इसके लिए अपना खाना-पीना तक छोड़ देते हैं, अपना और नुकसान कर लेते हैं, लेकिन बातचीत से प्राप्त आनंद को नहीं खोना चाहते। जिनसे केवल पत्र-व्यवहार है, कभी एक बार भी साक्षात्कार नहीं हुआ, उन्हें अपने प्रेमी से बात करने की अत्यधिक लालसा रहती है। अपने मन के भावों को दूसरों के सम्मुख प्रकट करने की दूसरों के अभिप्राय को स्वयं ग्रहण करने करने का एकमात्र साधन शब्द ही है। बेन जानसन का कथन उचित प्रतीत होता है कि "बोलने से ही मनुष्य के रूप का साक्षात्कार होता है।" एडिसन का मत है कि असल बातचीत सिर्फ दो में हो सकती है। जब तीन हुए तब वह दो की बात कोसों दूर चली जाती है। चार से अधिक की बातचीत केवल राम-रमौवल कहलाती है, इसलिए जब दो आदमी परस्पर बैठे बातें कर रहे हों और तीसरा वहाँ आ जाए तो वे दोनों निरस्त बैठ जाते हैं या फिर तीसरे को निपट मूर्ख और अज्ञानी समझ बनाने लगते हैं।

Sub questions

Question Number : 196 Question Id : 54592713530 Question Type : MCQ Option Shuffling : Yes Display Question Number : Yes Single Line Question Option : No Option Orientation : Vertical

Correct Marks : 1 Wrong Marks : 0.25

बातचीत की आदत के कारण लोग कैसा व्यवहार करते हैं?

Options :

1. ☒ खाना-पीना छोड़ अपना नुकसान कर लेते हैं
2. ☒ सब-कुछ भूल जाते हैं
3. ☒ खाना-पीना त्याग देते हैं
4. ☒ परेशानी में रहकर भी जी लेते हैं

Question Number : 197 Question Id : 54592713531 Question Type : MCQ Option Shuffling : Yes Display Question Number : Yes Single Line Question Option : No Option Orientation : Vertical

Correct Marks : 1 Wrong Marks : 0.25

शब्द किसका साधन है?

Options :

1. ☒ विचारों को लिपिबद्ध करने का
2. ☒ अपने भावों की अभिव्यक्ति और दूसरों को समझने का
3. ☒ भावों को समझाने का
4. ☒ पत्र-व्यवहार का

Question Number : 198 Question Id : 54592713532 Question Type : MCQ Option Shuffling : Yes Display Question Number : Yes Single Line Question Option : No Option Orientation : Vertical

Correct Marks : 1 Wrong Marks : 0.25

असली बातचीत किसे मानी जाती है?

Options :

1. ☒ दो के साथ तीसरे के आने पर
2. ☒ दो या अधिक लोगों के बीच की
3. ☒ दो लोगों के बीच की
4. ☒ दो या अधिक आत्मीय लोगों के बीच की

Question Number : 199 Question Id : 54592713533 Question Type : MCQ Option Shuffling : Yes Display Question Number : Yes Single Line Question Option : No Option Orientation : Vertical

Correct Marks : 1 Wrong Marks : 0.25

इनमें से कौन - सा अभिप्राय का पर्यायवाची नहीं है?

Options :

1. ✖ तात्पर्य
2. ✖ प्रयोजन
3. ✖ इरादा
4. ✔ अनर्थ

Question Number : 200 Question Id : 54592713534 Question Type : MCQ Option Shuffling : Yes Display Question Number : Yes
Single Line Question Option : No Option Orientation : Vertical

Correct Marks : 1 Wrong Marks : 0.25

निम्नलिखित में से कौनसा इस गद्यांश का यथोचित शीर्षक हो सकता है।

Options :

1. ✖ दो के बीच बात
2. ✖ बातचीत की आदत
3. ✔ बातचीत का मज़ा
4. ✖ लोगों की बातचीत

