

DSSSB
Jr Assistant
Previous Year Paper
04 Sept, 2019 Shift 3



Adda247

Test Prime

ALL EXAMS, ONE SUBSCRIPTION



1,00,000+
Mock Tests



Personalised
Report Card



Unlimited
Re-Attempt



600+
Exam Covered



25,000+ Previous
Year Papers



500%
Refund



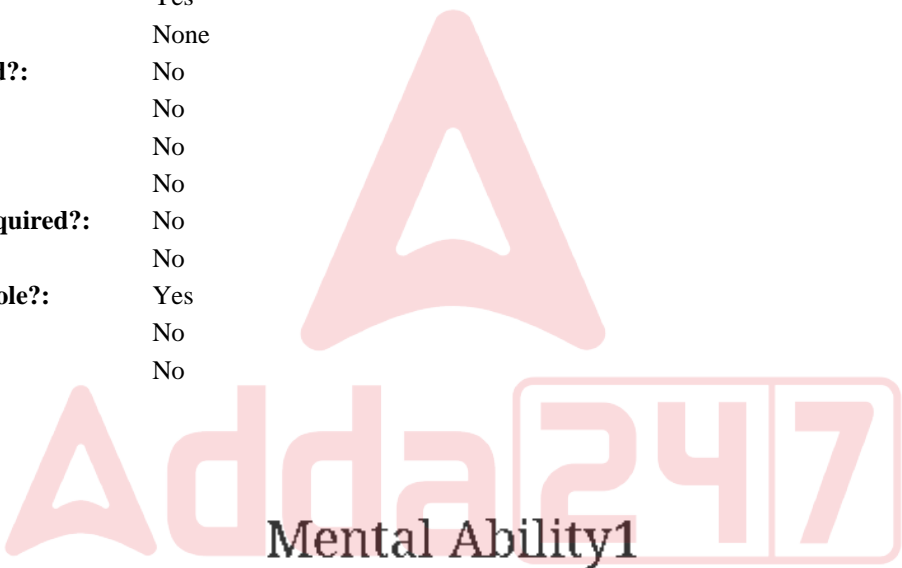
ATTEMPT FREE MOCK NOW

Education Consultant India Ltd.

Notations :

- 1.Options shown in green color and with ✓ icon are correct.
- 2.Options shown in red color and with ✖ icon are incorrect.

Question Paper Name:	Grade IV DASS Junior Assistant 04th September 2019 Shift 3
Subject Name:	GRADE IV DASS JUNIOR ASSISTANT
Creation Date:	2019-09-05 09:49:10
Duration:	120
Total Marks:	200
Display Marks:	Yes
Share Answer Key With Delivery Engine:	No
Actual Answer Key:	Yes
Calculator:	None
Magnifying Glass Required?:	No
Ruler Required?:	No
Eraser Required?:	No
Scratch Pad Required?:	No
Rough Sketch/Notepad Required?:	No
Protractor Required?:	No
Show Watermark on Console?:	Yes
Highlighter:	No
Auto Save on Console?:	No



Group Number :	1
Group Id :	5459271141
Group Maximum Duration :	0
Group Minimum Duration :	0
Show Attended Group? :	No
Edit Attended Group? :	No
Break time:	0
Group Marks:	20
Is this Group for Examiner?:	No
Revisit allowed for group Instructions? :	Yes
Maximum Instruction Time:	0
Minimum Instruction Time:	0

Mental Ability1

Section Id :	5459271141
Section Number :	1

Section type :	Online
Mandatory or Optional:	Mandatory
Number of Questions:	20
Number of Questions to be attempted:	20
Section Marks:	20

Sub-Section Number:	1
Sub-Section Id:	5459271369
Question Shuffling Allowed :	Yes

Question Number : 1 Question Id : 54592723029 Question Type : MCQ Option Shuffling : Yes
Correct Marks : 1 Wrong Marks : 0.25

From the given responses, find the missing letter in the series:

CY EW GU _____

Options :

1. ✓ IS
2. ✗ JI
3. ✗ LS
4. ✗ IR

Question Number : 1 Question Id : 54592723029 Question Type : MCQ Option Shuffling : Yes
Correct Marks : 1 Wrong Marks : 0.25

दिए गए विकल्पों में से श्रेणी में लुप्त अक्षर को ज्ञात करें:

CY EW GU _____

Options :

1. ✓ IS
2. ✗ JI
3. ✗ LS
4. ✗ IR

Question Number : 2 Question Id : 54592723030 Question Type : MCQ Option Shuffling : Yes
Correct Marks : 1 Wrong Marks : 0.25

Find the wrong term in the series?

LI, MJ, NK, OM, PM

Options :

1. ✖ NK

2. ✔ OM

3. ✖ LI

4. ✖ PM

Question Number : 2 Question Id : 54592723030 Question Type : MCQ Option Shuffling : Yes
Correct Marks : 1 Wrong Marks : 0.25

श्रृंखला में गलत पद खोजें?

LI, MJ, NK, OM, PM

Options :

1. ✖ NK

2. ✔ OM

3. ✖ LI

4. ✖ PM

Question Number : 3 Question Id : 54592723031 Question Type : MCQ Option Shuffling : Yes
Correct Marks : 1 Wrong Marks : 0.25

If each of the letters in SQUAD is replaced by its next letter in the English alphabet then how many vowel will the word have?

Options :

1. ✔ One

2. ✖ Two

3. ✖ Three

4. ✖ Four

Question Number : 3 Question Id : 54592723031 Question Type : MCQ Option Shuffling : Yes
Correct Marks : 1 Wrong Marks : 0.25

अगर SQUAD के प्रत्येक अक्षर को अंग्रेजी वर्णमाला में इसके अगले अक्षर से बदल दिया जाए तो शब्द में कितने स्वर होंगे?

Options :

1. ✔ एक
2. ✖ दो
3. ✖ तीन
4. ✖ चार

Question Number : 4 Question Id : 54592723032 Question Type : MCQ Option Shuffling : Yes
Correct Marks : 1 Wrong Marks : 0.25

Find the odd one out from the given alternatives.

Options :

1. ✖ Oxygen
2. ✔ Hydrogen
3. ✖ Carbon dioxide
4. ✖ Hydrogen peroxide

Question Number : 4 Question Id : 54592723032 Question Type : MCQ Option Shuffling : Yes
Correct Marks : 1 Wrong Marks : 0.25

दिए गए विकल्पों में से विषम को ज्ञात कीजिए।

Options :

1. ✖ ऑक्सीजन
2. ✔ हाइड्रोजन
3. ✖ कार्बन डाइऑक्साइड
4. ✖ हाइड्रोजन पेरोक्साइड

Question Number : 5 Question Id : 54592723033 Question Type : MCQ Option Shuffling : Yes

Correct Marks : 1 Wrong Marks : 0.25

Choose the odd one from the given alternatives.

Options :

1. ✖ DEB
2. ✖ MNK
3. ✔ WXV
4. ✖ LMJ

Question Number : 5 Question Id : 54592723033 Question Type : MCQ Option Shuffling : Yes
Correct Marks : 1 Wrong Marks : 0.25

दिए गए विकल्पों में से विषम को चुनिए।

Options :

1. ✖ DEB
2. ✖ MNK
3. ✔ WXV
4. ✖ LMJ

Question Number : 6 Question Id : 54592723034 Question Type : MCQ Option Shuffling : Yes
Correct Marks : 1 Wrong Marks : 0.25

In each of the following questions, certain pairs of words are given, out of which the words in all pairs except one, bear a certain common relationship. Choose the pair in which the words are differently related.

Options :

1. ✖ Rajasthan : Jaipur
2. ✖ Madhya Pradesh : Bhopal
3. ✖ Sikkim : Gangtok
4. ✔ Meghalaya : Kohima

Question Number : 6 Question Id : 54592723034 Question Type : MCQ Option Shuffling : Yes
Correct Marks : 1 Wrong Marks : 0.25

निम्नलिखित प्रत्येक प्रश्न में, कुछ निश्चित शब्द दिए गए हैं, जिनमें से एक को छोड़कर सभी जोड़े में शब्द एक निश्चित सामान्य संबंध है। उस जोड़ी को चुनें जिसमें शब्द अलग तरह से संबंधित हैं।

Options :

1. * राजस्थान : जयपुर
2. * मध्य प्रदेश : भोपाल
3. * सिक्किम : गंगटोक
4. ✓ मेघालय : कोहिमा

Question Number : 7 Question Id : 54592723035 Question Type : MCQ Option Shuffling : Yes

Correct Marks : 1 Wrong Marks : 0.25

In the following question, select the related letter/word/number from the given alternatives.

Cobbler : Shoes ::

Options :

1. ✓ Poet : Poem
2. * Author : Film
3. * Carpenter : Play
4. * Dramatist : Newspaper

Question Number : 7 Question Id : 54592723035 Question Type : MCQ Option Shuffling : Yes

Correct Marks : 1 Wrong Marks : 0.25

निम्नलिखित प्रश्न में दिए गए विकल्पों में से संबंधित अक्षर/शब्द/संख्या को चुनिए।

मोची : जूते ::

Options :

1. ✓ कवि : कविता

2. ✖ लेखक : फिल्म
3. ✖ बढ़ई : खेल
4. ✖ नाटककार : समाचार पत्र

Question Number : 8 Question Id : 54592723036 Question Type : MCQ Option Shuffling : Yes
Correct Marks : 1 Wrong Marks : 0.25

In the following question, select the related letter/word/number from the given alternatives.

BD : CI :: _____

Options :

1. ✖ CM : KK
2. ✖ IJ : IJ
3. ✖ CO : FT
4. ✔ DP : EY

Question Number : 8 Question Id : 54592723036 Question Type : MCQ Option Shuffling : Yes
Correct Marks : 1 Wrong Marks : 0.25

निम्नलिखित प्रश्न में, दिए गए विकल्पों में से संबंधित अक्षर / शब्द / संख्या को चुनिए।

BD: CI :: _____

Options :

1. ✖ CM : KK
2. ✖ IJ : IJ
3. ✖ CO : FT
4. ✔ DP : EY

Question Number : 9 Question Id : 54592723037 Question Type : MCQ Option Shuffling : Yes
Correct Marks : 1 Wrong Marks : 0.25

In the following question, select the related letter/word/number from the given alternatives.

AZB : BYC :: CXD : _____

Options :

1. ✓ DWE
2. ✗ DEF
3. ✗ DFG
4. ✗ DMN

Question Number : 9 Question Id : 54592723037 Question Type : MCQ Option Shuffling : Yes
Correct Marks : 1 Wrong Marks : 0.25

निम्नलिखित प्रश्न में दिए गए विकल्पों में से संबंधित अक्षर/शब्द/संख्या को चुनिए।

AZB : BYC :: CXD : _____

Options :

1. ✓ DWE
2. ✗ DEF
3. ✗ DFG
4. ✗ DMN

Question Number : 10 Question Id : 54592723038 Question Type : MCQ Option Shuffling : Yes
Correct Marks : 1 Wrong Marks : 0.25

If Mango is called Cheese, Cheese is called Detergent, Detergent is called Coffee, Coffee is called honey and honey is called Mango, which of the following is used for washing clothes?

Options :

1. ✓ Coffee

2. ✖ Honey

3. ✖ Cheese

4. ✖ Mango

Question Number : 10 Question Id : 54592723038 Question Type : MCQ Option Shuffling : Yes

Correct Marks : 1 Wrong Marks : 0.25

यदि आम को चीज़ कहा जाता है, चीज़ को डिटर्जेंट कहा जाता है, डिटर्जेंट को कॉफ़ी कहा जाता है, कॉफ़ी को शहद कहा जाता है और शहद को आम कहा जाता है, कपड़े धोने के लिए निम्न में से किसका उपयोग किया जाता है?

Options :

1. ✔ कॉफ़ी

2. ✖ शहद

3. ✖ चीज़

4. ✖ आम

Question Number : 11 Question Id : 54592723039 Question Type : MCQ Option Shuffling : Yes

Correct Marks : 1 Wrong Marks : 0.25

In a certain code, the following language is used:

“Drawback world finance now” is coded as “Sk Rk Tk Nk”.

“Finance worst recent problem” is coded as “Pk Gk Sk Fk”.

“Recent world seems better” is coded as “Nk Mk Pk Vk”.

“Seems better drawback for” is coded as “Vk Mk Rk Dk”.

Answer the following questions:

What will be the code for “Seems”?

Options :

1. ✖ Rk

2. ✖ Mk

3. ✖ Vk

4. ✔ Either Mk or Vk

Question Number : 11 Question Id : 54592723039 Question Type : MCQ Option Shuffling : Yes

Correct Marks : 1 Wrong Marks : 0.25

एक निश्चित कूट में, निम्नलिखित भाषा का उपयोग किया जाता है:

“Drawback world finance now” को “Sk Rk Tk Nk” के रूप में कोडित किया गया है।

“Finance worst recent problem” को “Pk Gk Sk Fk” के रूप में कोडित किया गया है।

“Recent world seems better” को “Nk Mk Pk Vk” के रूप में कोडित किया गया है।

“Seems better drawback for” को “Vk Mk Rk Dk” के रूप में कोडित किया गया है।

निम्नलिखित प्रश्नों के उत्तर दीजिए:

“Seems” के लिए कोड क्या होगा?

Options :

1. ✖ Rk

2. ✖ Mk

3. ✖ Vk

4. ✔ या तो Mk या Vk

Question Number : 12 Question Id : 54592723040 Question Type : MCQ Option Shuffling : Yes

Correct Marks : 1 Wrong Marks : 0.25

In the following question, a group of letters is given which are numbered 1, 2, 3, 4, 5 and 6. Below are given four alternatives containing combinations of these numbers. Select that combination of numbers so that letters arranged accordingly, form a meaningful word.

U T P R A B

1 2 3 4 5 6

Options :

1. ✖ 4, 6, 3, 5, 2, 1

2. ✔ 5, 6, 4, 1, 3, 2

3. ✖ 4, 6, 5, 2, 3, 1

4. ✖ 5, 2, 3, 1, 6, 4

Question Number : 12 Question Id : 54592723040 Question Type : MCQ Option Shuffling : Yes

Correct Marks : 1 Wrong Marks : 0.25

निम्नलिखित प्रश्न में, अक्षरों का एक समूह दिया गया है, संख्या 1, 2, 3, 4, 5 और 6 नीचे दिए गए हैं, इन संख्याओं के संयोजन वाले चार विकल्प दिए गए हैं। संख्याओं के उस संयोजन का चयन करें ताकि अक्षरों के अनुसार व्यवस्थित हो, एक सार्थक शब्द बनाएं।

U T P R A B

1 2 3 4 5 6

Options :

1. ✖ 4, 6, 3, 5, 2, 1

2. ✔ 5, 6, 4, 1, 3, 2

3. ✖ 4, 6, 5, 2, 3, 1

4. ✖ 5, 2, 3, 1, 6, 4

Question Number : 13 Question Id : 54592723041 Question Type : MCQ Option Shuffling : Yes
Correct Marks : 1 Wrong Marks : 0.25

In a gathering seven members are sitting in a row. 'C' is sitting left to 'B' but on the right to 'D'. 'A' is sitting right to 'B'. 'F' is sitting right to 'E' but left to 'D'. 'H' is sitting left to 'E'. Find the person sitting in the middle.

Options :

1. ✖ C
2. ✔ D
3. ✖ E
4. ✖ F

Question Number : 13 Question Id : 54592723041 Question Type : MCQ Option Shuffling : Yes
Correct Marks : 1 Wrong Marks : 0.25

सभी में एक पंक्ति में सात सदस्य बैठे हैं। C, B के बायीं ओर बैठा है लेकिन D के दायीं ओर बैठा है। 'A', 'B' के दायीं ओर बैठा है। 'F', 'E' के दायीं ओर बैठा है लेकिन 'D' के बायीं ओर बैठा है। 'H', 'E' के बायीं ओर बैठा है। मध्य में बैठा व्यक्ति ज्ञात करें।

Options :

1. ✖ C
2. ✔ D
3. ✖ E
4. ✖ F

Question Number : 14 Question Id : 54592723042 Question Type : MCQ Option Shuffling : Yes
Correct Marks : 1 Wrong Marks : 0.25

Among five persons – P, Q, R, S and T, each has different height. Only two persons are shorter than S. T is shorter than S but taller than R. The one who is the second tallest among them, is of 158 cm. Which of the following statements is definitely true with respect to the given information?

Options :

1. ✖ R is definitely 150 cm
2. ✖ P is possibly 153 cm
3. ✔ T is shorter than S
4. ✖ Q is shorter than S

Question Number : 14 Question Id : 54592723042 Question Type : MCQ Option Shuffling : Yes

Correct Marks : 1 Wrong Marks : 0.25

P, Q, R, S और T अलग - अलग ऊँचाई के व्यक्ति हैं। केवल दो व्यक्ति S से छोटे हैं। T, S से छोटा है परन्तु R से लंबा है। उनके बीच दूसरा सबसे ऊँचा व्यक्ति 158 से/मी का है। दी गयी जानकारी के अनुसार, निम्नलिखित कथनों में से कौन - सा कथन निश्चित रूप से सत्य है?

Options :

1. ✖ R निश्चित रूप से 150 से/मी का है।
2. ✖ P, 153 से/मी का हो सकता है।
3. ✔ T, S से छोटा है।
4. ✖ Q, S से छोटा है।

Question Number : 15 Question Id : 54592723043 Question Type : MCQ Option Shuffling : Yes

Correct Marks : 1 Wrong Marks : 0.25

Nine players - A through I - participated in a sporting event and the players are from the countries Bangladesh, America and England such that each of these countries is represented by three players.
Furthermore

- (i) Neither C nor F belong to either America or England.
- (ii) E and H belong to the same country.
- (iii) A, B and D are from different countries.
- (iv) B and H are from England.

Who are the players from England?

Options :

- 1. ✖ AGH
- 2. ✖ CDE
- 3. ✔ BHE
- 4. ✖ BHI

Question Number : 15 Question Id : 54592723043 Question Type : MCQ Option Shuffling : Yes
Correct Marks : 1 Wrong Marks : 0.25

नौ खिलाड़ी - A से I ने एक खेल कार्यक्रम में भाग लिया और खिलाड़ी बांग्लादेश, अमेरिका और इंग्लैंड जैसे देशों से हैं, इनमें से प्रत्येक देश का प्रतिनिधित्व तीन खिलाड़ियों द्वारा किया जाता है।

हालाँकि

- (i) न तो C और न ही F का संबंध अमेरिका या इंग्लैंड से है।
- (ii) E और H एक ही देश के हैं।
- (iii) A, B और D विभिन्न देशों के हैं।
- (iv) B और H इंग्लैंड से हैं।

इंग्लैंड के खिलाड़ी कौन हैं?

Options :

- 1. ✗ AGH
- 2. ✗ CDE
- 3. ✓ BHE
- 4. ✗ BHI



Question Number : 16 Question Id : 54592723044 Question Type : MCQ Option Shuffling : Yes
Correct Marks : 1 Wrong Marks : 0.25

Madhvi's rank is 13th in a class of 31 students. Give her rank from the last.

Options :

- 1. ✗ 15th
- 2. ✗ 17th
- 3. ✗ 18th
- 4. ✓ 19th

Question Number : 16 Question Id : 54592723044 Question Type : MCQ Option Shuffling : Yes

Correct Marks : 1 Wrong Marks : 0.25

31 विद्यार्थियों की कक्षा में माधवी की 13वीं श्रेणी है। अंतिम से उसकी श्रेणी ज्ञात करें।

Options :

1. ✖ 15वीं
2. ✖ 17वीं
3. ✖ 18वीं
4. ✔ 19वीं

Question Number : 17 Question Id : 54592723045 Question Type : MCQ Option Shuffling : Yes

Correct Marks : 1 Wrong Marks : 0.25

O is sister of D. D is brother of R. F is mother of O. How is R related to F?

Options :

1. ✖ Son
2. ✖ Daughter
3. ✔ Son or Daughter
4. ✖ Son in law

Question Number : 17 Question Id : 54592723045 Question Type : MCQ Option Shuffling : Yes

Correct Marks : 1 Wrong Marks : 0.25

O, D की बहन है। D, R का भाई है। F, O की मां है। R, F से कैसे संबंधित है?

Options :

1. ✖ बेटा
2. ✖ बेटी
3. ✔ पुत्र या पुत्री
4. ✖ दामाद

Question Number : 18 Question Id : 54592723046 Question Type : MCQ Option Shuffling : Yes

Correct Marks : 1 Wrong Marks : 0.25

In the question below, there are two statements followed by three conclusions. You have to take the given statements to be true even if they seem to be at variance with commonly known facts and then decide which of the given conclusion logically follow(s) from the given statements.

Statements:

- I. Some Lawyers are girls.
- II. All girls are fair.

Conclusions:

- I. Some girls are lawyers.
- II. No fair is girl.
- III. All girls are lawyers.

Options :

- 1. ✓ If only conclusion I is true
- 2. ✖ If only conclusion II is true
- 3. ✖ If either conclusion I or II is true
- 4. ✖ If conclusion I and III follow

Question Number : 18 Question Id : 54592723046 Question Type : MCQ Option Shuffling : Yes

Correct Marks : 1 Wrong Marks : 0.25

नीचे दिए गए प्रश्न में दो कथन और उसके बाद तीन निष्कर्ष दिए गए हैं। आपको दिए गए कथनों को सत्य मानना है भले ही वे सर्वज्ञात तथ्यों से भिन्न प्रतीत होते हों। सभी निष्कर्षों को पढ़िए फिर तय कीजिए कि दिए गए निष्कर्षों में से कौन सा तर्कसंगत रूप से अनुसरण करता है, चाहे सर्वज्ञात तथ्य कुछ भी हों।

कथन:

कुछ वकील, लड़कियाँ हैं।
सभी लड़कियाँ, गोरी हैं।

निष्कर्ष:

- I. कुछ लड़कियाँ, वकील हैं।
- II. कोई गोरी लड़कियाँ नहीं है।
- III. सभी लड़कियाँ, वकील हैं।

Options :

1. ✓ यदि केवल निष्कर्ष I सत्य है
2. ✖ यदि केवल निष्कर्ष II सत्य है
3. ✖ यदि या निष्कर्ष I या II सत्य है
4. ✖ यदि निष्कर्ष I और III सत्य हैं

Question Number : 19 Question Id : 54592723047 Question Type : MCQ Option Shuffling : Yes

Correct Marks : 1 Wrong Marks : 0.25

For the Assertion (A) and Reason (R) given below, choose the correct alternative from the following:

Assertion (A): Attack on United States of America resulted in the starting of First Gulf War.

Reason (R): The twin trade towers were destroyed in militant attack.

Options :

1. * Both (A) and (R) are true and (R) is the correct explanation of (A)
2. * Both (A) and (R) are true, but (R) is not the correct explanation of (A)
3. * (A) is true, but (R) is false
4. ✓ (A) is false, but (R) is true

Question Number : 19 Question Id : 54592723047 Question Type : MCQ Option Shuffling : Yes
Correct Marks : 1 Wrong Marks : 0.25

नीचे दिए गए दावे (ए) और कारण (आर) के लिए, निम्नलिखित में से सही विकल्प चुनें:

दावे (ए): संयुक्त राज्य अमेरिका पर हमले के परिणामस्वरूप प्रथम खाड़ी युद्ध शुरू हुआ।

कारण (R): आतंकवादी हमले में ट्विन ट्रेड टॉवर नष्ट किये गए थे।

Options :

1. * दोनों (A) और (R) सही हैं और (R) (A) की सही व्याख्या है
2. * दोनों (A) और (R) सच हैं, लेकिन (R) (A) का सही स्पष्टीकरण नहीं है
3. * (A) सच है, लेकिन (R) गलत है

4. ✓ (A) गलत है, लेकिन (R) सच है

Question Number : 20 Question Id : 54592723048 Question Type : MCQ Option Shuffling : Yes

Correct Marks : 1 Wrong Marks : 0.25

Complete the following series:

121, 112, _____, 97, 91, 86

Options :

1. ✓ 104

2. ✗ 109

3. ✗ 120

4. ✗ 110

Question Number : 20 Question Id : 54592723048 Question Type : MCQ Option Shuffling : Yes

Correct Marks : 1 Wrong Marks : 0.25

निम्नलिखित श्रृंखला को पूरा करें।

121, 112, _____, 97, 91, 86

Options :

1. ✓ 104

2. ✗ 109

3. ✗ 120

4. ✗ 110

Mental Ability2

Group Number :	2
Group Id :	5459271142
Group Maximum Duration :	0
Group Minimum Duration :	0
Show Attended Group? :	No
Edit Attended Group? :	No
Break time:	0

Group Marks:	20
Is this Group for Examiner?:	No
Revisit allowed for group Instructions? :	Yes
Maximum Instruction Time:	0
Minimum Instruction Time:	0

Mental Ability2

Section Id :	5459271142
Section Number :	1
Section type :	Online
Mandatory or Optional:	Mandatory
Number of Questions:	20
Number of Questions to be attempted:	20
Section Marks:	20

Sub-Section Number:	1
Sub-Section Id:	5459271370
Question Shuffling Allowed :	Yes

Question Number : 21 Question Id : 54592723049 Question Type : MCQ Option Shuffling : Yes
Correct Marks : 1 Wrong Marks : 0.25

Find the wrong term in the given series:

1, 3, 9, 27, 81, 241

Options :

- 1. ✖ 9
- 2. ✖ 27
- 3. ✖ 81
- 4. ✔ 241

Question Number : 21 Question Id : 54592723049 Question Type : MCQ Option Shuffling : Yes
Correct Marks : 1 Wrong Marks : 0.25

दी गई श्रृंखला में गलत पद ज्ञात करें:

1, 3, 9, 27, 81, 241

Options :

- 1. ✖ 9

2. ✖ 27

3. ✖ 81

4. ✔ 241

Question Number : 22 Question Id : 54592723050 Question Type : MCQ Option Shuffling : Yes
Correct Marks : 1 Wrong Marks : 0.25

Choose the odd one from the given options:

Options :

1. ✖ 14

2. ✔ 7

3. ✖ 28

4. ✖ 36

Question Number : 22 Question Id : 54592723050 Question Type : MCQ Option Shuffling : Yes
Correct Marks : 1 Wrong Marks : 0.25

दिए गए विकल्पों में से भिन्न संख्या को चुनें:

Options :

1. ✖ 14

2. ✔ 7

3. ✖ 28

4. ✖ 36

Question Number : 23 Question Id : 54592723051 Question Type : MCQ Option Shuffling : Yes
Correct Marks : 1 Wrong Marks : 0.25

Choose the odd numeral pair/group in following question:

Options :

1. ✖ 46_5

2. ✖ 37_6

3. ✖ 64_7

4. ✔ 82_8

Question Number : 23 Question Id : 54592723051 Question Type : MCQ Option Shuffling : Yes
Correct Marks : 1 Wrong Marks : 0.25

निम्नलिखित प्रश्न में विषम अंक जोड़ी / समूह चुनें:

Options :

1. ✖ 46_5
2. ✖ 37_6
3. ✖ 64_7
4. ✔ 82_8

Question Number : 24 Question Id : 54592723052 Question Type : MCQ Option Shuffling : Yes
Correct Marks : 1 Wrong Marks : 0.25

Choose the odd numeral pair/group in following question:

Options :

1. ✖ 3 - 4 - 49
2. ✖ 5 - 6 - 121
3. ✖ 8 - 2 - 100
4. ✔ 7 - 4 - 144

Question Number : 24 Question Id : 54592723052 Question Type : MCQ Option Shuffling : Yes
Correct Marks : 1 Wrong Marks : 0.25

निम्नलिखित प्रश्न में विषम अंक जोड़ी / समूह चुनें:

Options :

1. ✖ 3 - 4 - 49
2. ✖ 5 - 6 - 121
3. ✖ 8 - 2 - 100
4. ✔ 7 - 4 - 144

Question Number : 25 Question Id : 54592723053 Question Type : MCQ Option Shuffling : Yes
Correct Marks : 1 Wrong Marks : 0.25

In the following question, select the related letter/word/number from the given alternatives.

(435, 530, 642)

Options :

1. ✖ (264, 242, 752)

2. ✔ (264, 242, 750)

3. ✖ (264, 242, 754)

4. ✖ (264, 240, 750)

Question Number : 25 Question Id : 54592723053 Question Type : MCQ Option Shuffling : Yes
Correct Marks : 1 Wrong Marks : 0.25

निम्नलिखित प्रश्न में दिए गए विकल्पों में से सम्बन्धित अक्षर/शब्द/संख्या को चुनिए।

(435, 530, 642)

Options :

1. ✖ (264, 242, 752)

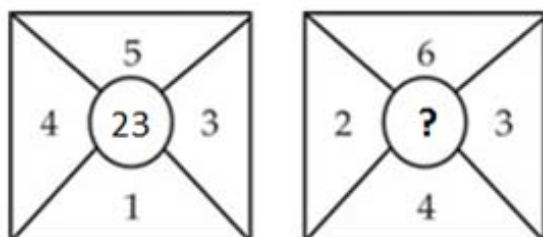
2. ✔ (264, 242, 750)

3. ✖ (264, 242, 754)

4. ✖ (264, 240, 750)

Question Number : 26 Question Id : 54592723054 Question Type : MCQ Option Shuffling : Yes
Correct Marks : 1 Wrong Marks : 0.25

Find missing number.

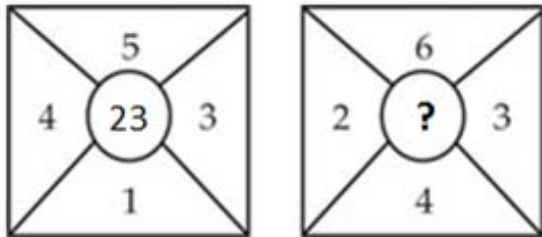


Options :

1. ✖ 21
2. ✔ 24
3. ✖ 20
4. ✖ 18

Question Number : 26 Question Id : 54592723054 Question Type : MCQ Option Shuffling : Yes
Correct Marks : 1 Wrong Marks : 0.25

लुप्त संख्या ज्ञात करें।



Options :

1. ✖ 21
2. ✔ 24
3. ✖ 20
4. ✖ 18



Question Number : 27 Question Id : 54592723055 Question Type : MCQ Option Shuffling : Yes
Correct Marks : 1 Wrong Marks : 0.25

If 'a' denotes ' \div ', 'b' denotes '+', 'c' denotes '-', 'd' denotes 'x',
then $24a6d4b9c8 = ?$

Options :

1. ✖ 2
2. ✔ 17
3. ✖ 34
4. ✖ 19

Question Number : 27 Question Id : 54592723055 Question Type : MCQ Option Shuffling : Yes

Correct Marks : 1 Wrong Marks : 0.25

यदि 'a' का अर्थ \div , 'b' का अर्थ $+$, 'c' का अर्थ $-$, 'd' का अर्थ \times है , तो $24a6d4b9c8 = ?$

Options :

1. \times 2
2. \checkmark 17
3. \times 34
4. \times 19

Question Number : 28 Question Id : 54592723056 Question Type : MCQ Option Shuffling : Yes

Correct Marks : 1 Wrong Marks : 0.25

In the question given below, there is a statement followed by two conclusions. You have to take the given statement to be true even if they seem to be at variance with commonly known facts and then decide which of the given conclusion logically follow(s) from the given statements.

Statements:

I. $G > R \geq E = A \leq T \leq S$

Conclusions:

- I. $G \geq E$
- II. $R \geq A$

Options :

1. \checkmark Only conclusion II is true.
2. \times Only conclusion I is true.
3. \times Either conclusion I or II is true.

4. * Neither conclusion I nor II is true.

Question Number : 28 Question Id : 54592723056 Question Type : MCQ Option Shuffling : Yes
Correct Marks : 1 Wrong Marks : 0.25

नीचे दिए गए प्रश्न में, एक कथन के बाद दो निष्कर्ष दिए गए हैं। आपको दिए गए कथन को सत्य मानना है, भले ही वे आम तौर पर ज्ञात तथ्यों के साथ विचरण करते हों और फिर तय करें कि दिए गए कथन में से कौन सा निष्कर्ष तार्किक रूप से अनुसरण करता है।

कथन:

$$G > R \geq E = A \leq T \leq S$$

निष्कर्ष:

I. $G \geq E$

II. $R \geq A$

Options :

1. ✓ केवल निष्कर्ष II सत्य है।
2. * केवल निष्कर्ष I सत्य है।
3. * या तो निष्कर्ष I या II सत्य है।
4. * न तो निष्कर्ष I और न ही II सत्य है।

Question Number : 29 Question Id : 54592723057 Question Type : MCQ Option Shuffling : Yes
Correct Marks : 1 Wrong Marks : 0.25

Choose the odd one from the given options:

Options :

1. * 5, 13, 17
2. * 29, 1, 5
3. * 17, 17, 1

4. ✓ 15, 5, 5

Question Number : 29 Question Id : 54592723057 Question Type : MCQ Option Shuffling : Yes
Correct Marks : 1 Wrong Marks : 0.25

दिए गए विकल्पों में से भिन्न संख्या को चुनें:

Options :

1. ✗ 5, 13, 17

2. ✗ 29, 1, 5

3. ✗ 17, 17, 1

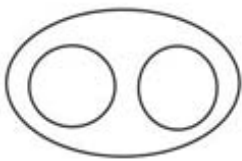
4. ✓ 15, 5, 5

Question Number : 30 Question Id : 54592723058 Question Type : MCQ Option Shuffling : Yes
Correct Marks : 1 Wrong Marks : 0.25

Which of the following diagrams best represents a relationship among Pencil, Pen and Writing Instruments?

Options :

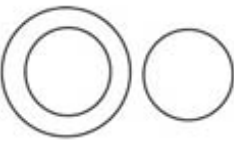
1. ✓



2. ✗



3. ✗



4. ✗

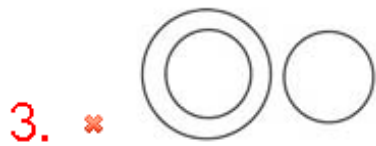
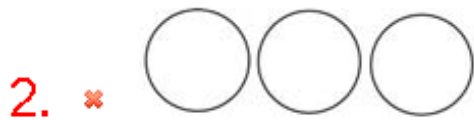
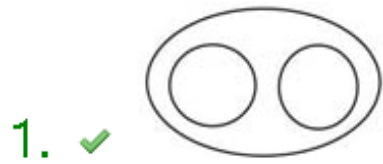


Question Number : 30 Question Id : 54592723058 Question Type : MCQ Option Shuffling : Yes

Correct Marks : 1 Wrong Marks : 0.25

निम्नलिखित में से कौन सा चित्र पेंसिल, पेन और लेखन साधन के बीच संबंध का प्रतिनिधित्व करता है?

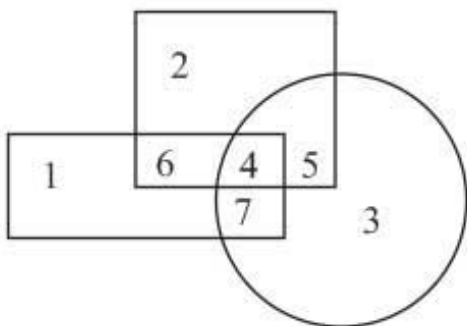
Options :



Question Number : 31 Question Id : 54592723059 Question Type : MCQ Option Shuffling : Yes

Correct Marks : 1 Wrong Marks : 0.25

In the given figure, the circle represents Urban, rectangle represents Male, and Square represents Educate which region represents educated urban male?



Options :

1. ✖ 6

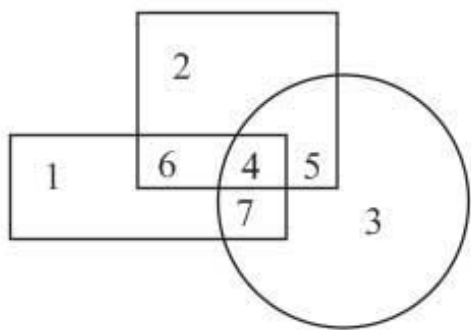
2. ✔ 4

3. ✖ 7

4. ✖ 5

Question Number : 31 Question Id : 54592723059 Question Type : MCQ Option Shuffling : Yes
Correct Marks : 1 Wrong Marks : 0.25

दी गयी आकृति में वृत्त, शहरी का प्रतिनिधित्व करता है, आयत, पुरुष का प्रतिनिधित्व करता है, वर्ग, शिक्षित का प्रतिनिधित्व करता है तो कौन सा क्षेत्र शिक्षित शहरी पुरुष का प्रतिनिधित्व करता है?



Options :

1. ✖ 6

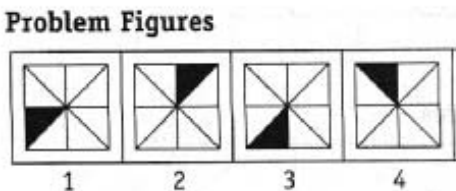
2. ✔ 4

3. ✖ 7

4. ✖ 5

Question Number : 32 Question Id : 54592723060 Question Type : MCQ Option Shuffling : Yes
Correct Marks : 1 Wrong Marks : 0.25

Complete the series by choosing right figure from the given choices.



Options :

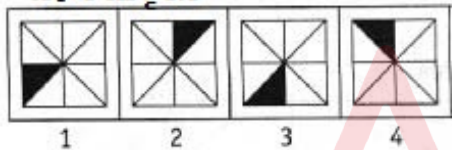


Question Number : 32 Question Id : 54592723060 Question Type : MCQ Option Shuffling : Yes

Correct Marks : 1 Wrong Marks : 0.25

दिए गए विकल्पों में से सही उत्तर चुनकर श्रृंखला को पूरा करें।

प्रश्न आकृति



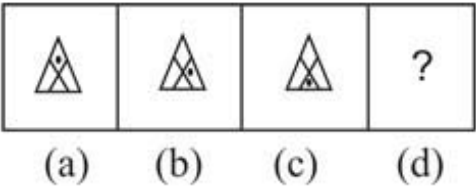
Options :





Question Number : 33 Question Id : 54592723061 Question Type : MCQ Option Shuffling : Yes
Correct Marks : 1 Wrong Marks : 0.25

Complete the series by choosing right figure from the given choices.

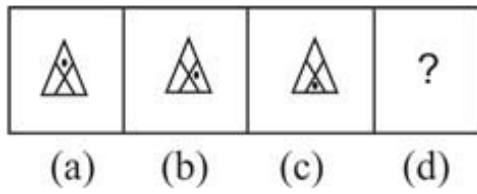


Options :

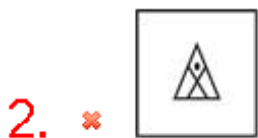


Question Number : 33 Question Id : 54592723061 Question Type : MCQ Option Shuffling : Yes
Correct Marks : 1 Wrong Marks : 0.25

दिए गए विकल्पों में से सही उत्तर चुनकर श्रृंखला को पूरा करें।




Options :



Question Number : 34 Question Id : 54592723062 Question Type : MCQ Option Shuffling : Yes

Correct Marks : 1 Wrong Marks : 0.25

Find the missing figure in the given matrix.




Options :



Question Number : 34 Question Id : 54592723062 Question Type : MCQ Option Shuffling : Yes
Correct Marks : 1 Wrong Marks : 0.25

दिए गए मैट्रिक्स में लुप्त आकृति ज्ञात कीजिए।



Options :






Question Number : 35 Question Id : 54592723063 Question Type : MCQ Option Shuffling : Yes
Correct Marks : 1 Wrong Marks : 0.25

Three of the four figures are in a sequence or similarity in some way or the other, while one of them is different from the rest. You have to choose the figure which is odd /different:


Options :



Question Number : 35 Question Id : 54592723063 Question Type : MCQ Option Shuffling : Yes
Correct Marks : 1 Wrong Marks : 0.25

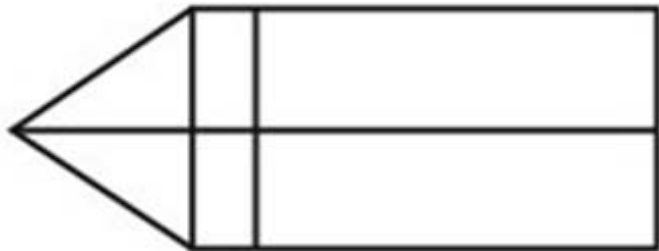
निम्नलिखित चार चित्रों में से तीन में एक समानता है, जबकि उनमें से एक बाकी से अलग है। आपको वह आकृति चुननी है जो विषम / भिन्न हो।

Options :



Question Number : 36 Question Id : 54592723064 Question Type : MCQ Option Shuffling : Yes
Correct Marks : 1 Wrong Marks : 0.25

How many rectangles are there in the figure given below?



Options :

1. ✖ 7

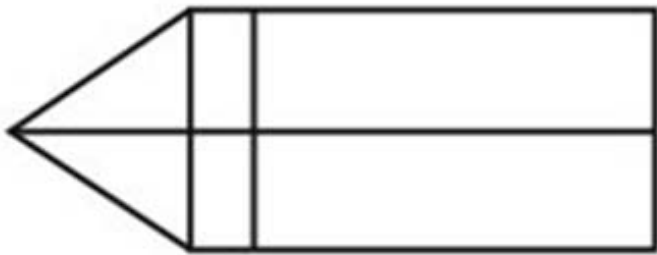
2. ✖ 8

3. ✓ 9

4. ✗ 11

Question Number : 36 Question Id : 54592723064 Question Type : MCQ Option Shuffling : Yes
Correct Marks : 1 Wrong Marks : 0.25

नीचे दी गई आकृति में कितने आयत हैं?



Options :

1. ✗ 7

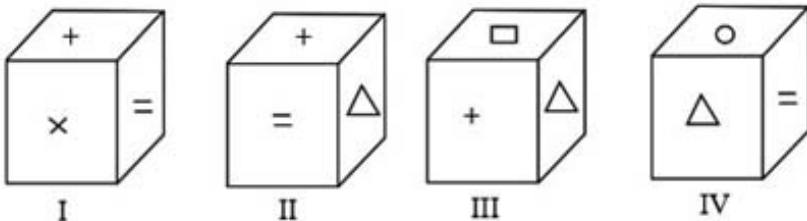
2. ✗ 8

3. ✓ 9

4. ✗ 11

Question Number : 37 Question Id : 54592723065 Question Type : MCQ Option Shuffling : Yes
Correct Marks : 1 Wrong Marks : 0.25

In the following questions four positions of the same dice are shown. Select the symbol opposite to the symbol as asked in the question.



Which symbol will be opposite to symbol Δ ?

Options :

1. ✗ 0

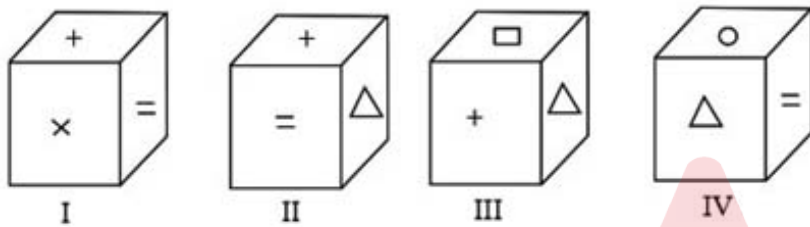
2. ✖ =

3. ✔ ✖

4. ✖ Δ

Question Number : 37 Question Id : 54592723065 Question Type : MCQ Option Shuffling : Yes
Correct Marks : 1 Wrong Marks : 0.25

निम्नलिखित प्रश्न में एक ही पासा की चार स्थितियां दी गयी हैं। प्रश्न में पूछे गए चिह्न के विपरीत चिह्न को ज्ञात कीजिए।



Δ चिह्न के विपरीत कौन सा चिह्न होगा?

Options :

1. ✖ ○

2. ✖ =

3. ✔ ✖

4. ✖ Δ

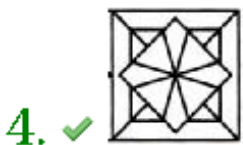
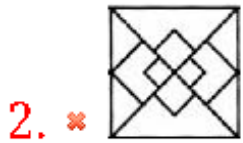
Question Number : 38 Question Id : 54592723066 Question Type : MCQ Option Shuffling : Yes
Correct Marks : 1 Wrong Marks : 0.25

In the given question find the answer figure in which question figure is embedded.

Question Figure



Options :




Question Number : 38 Question Id : 54592723066 Question Type : MCQ Option Shuffling : Yes

Correct Marks : 1 Wrong Marks : 0.25

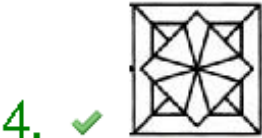
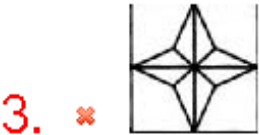
दिए गए प्रश्न में उत्तर आकृति ज्ञात कीजिए जिसमें प्रश्न आकृति सन्निहित है।

प्रश्न आकृति



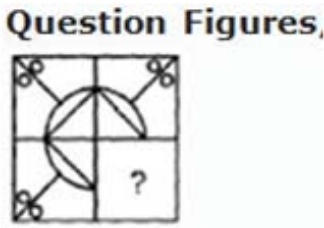
Options :





Question Number : 39 Question Id : 54592723067 Question Type : MCQ Option Shuffling : Yes
Correct Marks : 1 Wrong Marks : 0.25

Which answer figure will complete the pattern in the question figure?



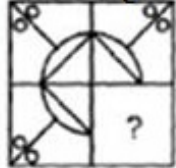
Options :



Question Number : 39 Question Id : 54592723067 Question Type : MCQ Option Shuffling : Yes
Correct Marks : 1 Wrong Marks : 0.25

कौन सी उत्तर आकृति प्रश्न आकृति में पैटर्न को पूरा करेगी?

प्रश्न आकृति



Options :




Question Number : 40 Question Id : 54592723068 Question Type : MCQ Option Shuffling : Yes

Correct Marks : 1 Wrong Marks : 0.25

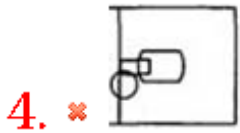
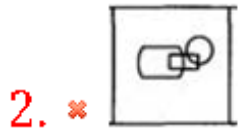
Which of the following choices is the exact mirror image of the main figure.

Main Figure



Options :

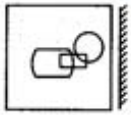




Question Number : 40 Question Id : 54592723068 Question Type : MCQ Option Shuffling : Yes
Correct Marks : 1 Wrong Marks : 0.25

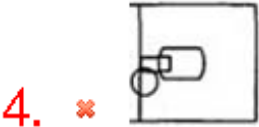
निम्नलिखित में से कौन सा विकल्प मुख्य आकृति की सटीक दर्पण छवि है।

प्रश्न आकृति



Options :





General Awareness1

Group Number :	3
Group Id :	5459271143
Group Maximum Duration :	0
Group Minimum Duration :	0
Show Attended Group? :	No
Edit Attended Group? :	No
Break time:	0
Group Marks:	20
Is this Group for Examiner?:	No
Revisit allowed for group Instructions? :	Yes
Maximum Instruction Time:	0
Minimum Instruction Time:	0

General Awareness1

Section Id :	5459271143
Section Number :	1
Section type :	Online
Mandatory or Optional:	Mandatory
Number of Questions:	20
Number of Questions to be attempted:	20
Section Marks:	20

Sub-Section Number:	1
Sub-Section Id:	5459271371
Question Shuffling Allowed :	Yes

Question Number : 41 Question Id : 54592723069 Question Type : MCQ Option Shuffling : Yes
Correct Marks : 1 Wrong Marks : 0.25

Mark the correct match of regional dances with their respective states, in which they are prevalent.

Options :

1. ✖ Theyyam - Gujarat

2. ✖ Dandiya Raas - Kerala
3. ✖ Yakshagana - Maharashtra
4. ✔ Cheraw - Mizoram

Question Number : 41 Question Id : 54592723069 Question Type : MCQ Option Shuffling : Yes
Correct Marks : 1 Wrong Marks : 0.25

संबंधित राज्यों का उनके के क्षेत्रीय नृत्यों से सही मिलान को चिह्नित करें, जिसमें वे प्रचलित हैं।

Options :

1. ✖ थेययम - गुजरात
2. ✖ डांडिया रास - केरल
3. ✖ यक्षगान - महाराष्ट्र
4. ✔ चेरव - मिज़ोरम

Question Number : 42 Question Id : 54592723070 Question Type : MCQ Option Shuffling : Yes
Correct Marks : 1 Wrong Marks : 0.25

The instruments like Kamaicha are _____.

Options :

1. ✖ Wind instruments
2. ✔ Stringed instruments
3. ✖ Rhythm instruments
4. ✖ Reed instruments

Question Number : 42 Question Id : 54592723070 Question Type : MCQ Option Shuffling : Yes
Correct Marks : 1 Wrong Marks : 0.25

कमैचा जैसे सभी उपकरण _____ हैं।

Options :

1. ✖ वायु उपकरण
2. ✔ तार वाद्य
3. ✖ ताल वाद्य

4. ✖ कम्पिका वाद्य

Question Number : 43 Question Id : 54592723071 Question Type : MCQ Option Shuffling : Yes

Correct Marks : 1 Wrong Marks : 0.25

In which of the following states is Durga Puja the biggest festival?

Options :

1. ✖ Tamil Nadu

2. ✖ Punjab

3. ✖ Karnataka

4. ✔ West Bengal

Question Number : 43 Question Id : 54592723071 Question Type : MCQ Option Shuffling : Yes

Correct Marks : 1 Wrong Marks : 0.25

दुर्गा पूजा निम्नलिखित में से किस राज्य का सबसे बड़ा त्योहार है?

Options :

1. ✖ तमिलनाडु

2. ✖ पंजाब

3. ✖ कर्नाटक

4. ✔ पश्चिम बंगाल

Question Number : 44 Question Id : 54592723072 Question Type : MCQ Option Shuffling : Yes

Correct Marks : 1 Wrong Marks : 0.25

This monument was built by Nawab Asaf-ud-Daula in 1784 and its designer was Kifayat-ullah. It is situated in Lucknow and is neither a mosque nor a mausoleum. Which of the following monuments is being talked about?

Options :

1. ✖ Begum Kothi

2. ✔ Bara Imambara

3. ✖ Hawa Mahal

4. ✖ Sheesh Mahal

Question Number : 44 Question Id : 54592723072 Question Type : MCQ Option Shuffling : Yes
Correct Marks : 1 Wrong Marks : 0.25

इस स्मारक को नवाब आसफ़-उद-दौला ने 1784 में बनवाया था और इसका डिज़ाइनर क़िफ़ायत -उल्लाह था। यह लखनऊ में स्थित है और न तो मस्जिद है और न ही मकबरा। निम्नलिखित में से किस स्मारक की बात की जा रही है?

Options :

1. ✖ बेगम कोठी
2. ✔ बड़ा इमामबाड़ा
3. ✖ हवा महल
4. ✖ शीश महल

Question Number : 45 Question Id : 54592723073 Question Type : MCQ Option Shuffling : Yes
Correct Marks : 1 Wrong Marks : 0.25

Fiscal Policy is an estimate of (i)_____ and (ii)_____ that impacts the economy.

Options :

1. ✖ (i)Taxation ,(ii)Foreign Direct Investors
2. ✖ (i)Government spending, (ii) Foregin Direct Investors
3. ✔ (i) Taxation, (ii) Government Spending
4. ✖ (i) Government spending, (ii) Loans from International Financial Institution

Question Number : 45 Question Id : 54592723073 Question Type : MCQ Option Shuffling : Yes
Correct Marks : 1 Wrong Marks : 0.25

राजकोषीय नीति (i) _____ और (ii) _____ का एक अनुमान है जो अर्थव्यवस्था को प्रभावित करती है।

Options :

1. ✖ (i) कराधान, (ii) विदेशी प्रत्यक्ष निवेशक
2. ✖ (i) सरकारी खर्च, (ii) विदेशी प्रत्यक्ष निवेशक
3. ✔ (i) कराधान, (ii) सरकारी व्यय,
4. ✖ (i) सरकारी व्यय, (ii) अंतर्राष्ट्रीय वित्तीय संस्थान से ऋण

Question Number : 46 Question Id : 54592723074 Question Type : MCQ Option Shuffling : Yes
Correct Marks : 1 Wrong Marks : 0.25

_____ is the sum total of the net value added and depreciation of all the firms of the economy.

Options :

1. ✔ Gross Domestic Product
2. ✖ National Domestic Product
3. ✖ Inflation
4. ✖ Deflation

Question Number : 46 Question Id : 54592723074 Question Type : MCQ Option Shuffling : Yes
Correct Marks : 1 Wrong Marks : 0.25

_____ अर्थव्यवस्था के सभी फर्मों के निवल मूल्यवर्धित और मूल्यहास का कुल योग है।

Options :

1. ✔ सकल देशी उत्पाद
2. ✖ राष्ट्रीय घरेलू उत्पाद
3. ✖ मुद्रास्फीति
4. ✖ अपस्फीति

Question Number : 47 Question Id : 54592723075 Question Type : MCQ Option Shuffling : Yes
Correct Marks : 1 Wrong Marks : 0.25

The food procured by the Food Corporation of India is distributed through government regulated ration shops among the poorer section of the society. This is called PDS. In this 'P' stands for:

Options :

1. ✖ Private
2. ✖ Permanent
3. ✖ Price
4. ✔ Public

Question Number : 47 Question Id : 54592723075 Question Type : MCQ Option Shuffling : Yes
Correct Marks : 1 Wrong Marks : 0.25

भारतीय खाद्य निगम द्वारा खरीदे गए भोजन को सरकारी विनियमित राशन दुकानों के माध्यम से समाज के गरीब वर्ग में वितरित किया जाता है। इसे पीडीएस कहा जाता है। इसमें 'P' का अर्थ है:

Options :

1. ✖ निजी
2. ✖ स्थायी
3. ✖ मूल्य
4. ✔ सार्वजनिक

Question Number : 48 Question Id : 54592723076 Question Type : MCQ Option Shuffling : Yes
Correct Marks : 1 Wrong Marks : 0.25

Which of the following are not the properties of the image formed by plane mirror?

Options :

1. ✔ Image formed by a plane mirror is always real and erect.
2. ✖ The size of the image is equal to that of the object.
3. ✖ The image formed is as far behind the mirror as the object is in front of it.

4. ✖ The image is laterally inverted.

Question Number : 48 Question Id : 54592723076 Question Type : MCQ Option Shuffling : Yes
Correct Marks : 1 Wrong Marks : 0.25

निम्नलिखित में से कौन सी समतल दर्पण द्वारा निर्मित छवि के गुण नहीं हैं?

Options :

1. ✔ समतल दर्पण द्वारा बना प्रतिबिम्ब सदैव वास्तविक और सीधा होता है।
2. ✖ प्रतिबिम्ब का साइज बिम्ब के साइज के बराबर होता है।
3. ✖ प्रतिबिम्ब दर्पण के पीछे उतने ही दूर बनता है , जितनी दूरी पर दर्पण के सामने रखा बिम्ब होता है।
4. ✖ प्रतिबिम्ब पार्श्व परिवर्तित होता है।

Question Number : 49 Question Id : 54592723077 Question Type : MCQ Option Shuffling : Yes
Correct Marks : 1 Wrong Marks : 0.25

What is Ohm's law?

Options :

1. ✖ The potential difference, V , across the ends of a given metallic wire in an electric circuit is indirectly proportional to the current flowing through it, provided its pressure remains the same.
2. ✖ The potential difference, V , across the ends of a given metallic wire in an electric circuit is directly proportional to the current flowing through it, provided its pressure remains the same.
3. ✔ The potential difference, V , across the ends of a given metallic wire in an electric circuit is directly proportional to the current flowing through it, provided its temperature remains the same.

4. * The potential difference, V , across the ends of a given metallic wire in an electric circuit is indirectly proportional to the current flowing through it, provided its temperature remains the same.

Question Number : 49 Question Id : 54592723077 Question Type : MCQ Option Shuffling : Yes
Correct Marks : 1 Wrong Marks : 0.25

ओम का नियम क्या है?

Options :

1. * एक विद्युत परिपथ में धातु के तार के दो सिरों के बीच विभवान्तर उसमें प्रवाहित होने वाली विद्युत धरा के अप्रत्यक्ष समानुपाती होता है, परंतु तार का दाब समान रहना चाहिए।
2. * एक विद्युत परिपथ में धातु के तार के दो सिरों के बीच विभवान्तर उसमें प्रवाहित होने वाली विद्युत धरा के प्रत्यक्ष समानुपाती होता है, परंतु तार का दाब समान रहना चाहिए।
3. ✓ एक विद्युत परिपथ में धातु के तार के दो सिरों के बीच विभवान्तर उसमें प्रवाहित होने वाली विद्युत धरा के प्रत्यक्ष समानुपाती होता है, परंतु तार का ताप समान रहना चाहिए।
4. * एक विद्युत परिपथ में धातु के तार के दो सिरों के बीच विभवान्तर उसमें प्रवाहित होने वाली विद्युत धरा के अप्रत्यक्ष समानुपाती होता है, परंतु तार का ताप समान रहना चाहिए।

Question Number : 50 Question Id : 54592723078 Question Type : MCQ Option Shuffling : Yes
Correct Marks : 1 Wrong Marks : 0.25

How will a compass behave if it is placed near the north pole of magnet?

Options :

1. * The south pole of the needle points towards the South pole of the magnet. The north pole of the compass is directed towards from the north pole of the magnet.
2. * The south pole of the needle points towards the south pole of the magnet. The north pole of the compass is directed away from the north pole of the magnet.
3. * The south pole of the needle points towards the north pole of the magnet. The north pole of the compass is directed towards from the north pole of the magnet.
4. ✓ The south pole of the needle points towards the north pole of the magnet. The north pole of the compass is directed away from the north pole of the magnet.

Question Number : 50 Question Id : 54592723078 Question Type : MCQ Option Shuffling : Yes
Correct Marks : 1 Wrong Marks : 0.25

यदि कंपास चुंबक (दिशा सूचक यंत्र) के उत्तरी ध्रुव के पास रखा जाता है तो एक कम्पास कैसे व्यवहार करेगा?

Options :

1. * सुई का दक्षिणी ध्रुव चुंबक के दक्षिणी ध्रुव की ओर इंगित करता है । कम्पास के उत्तरी ध्रुव को चुंबक के उत्तरी ध्रुव की ओर निर्देशित किया जाता है।
2. * सुई का दक्षिणी ध्रुव चुंबक के दक्षिणी ध्रुव की ओर इंगित करता है । कम्पास के उत्तरी ध्रुव को चुंबक के उत्तरी ध्रुव से दूर निर्देशित किया जाता है।
3. * सुई का दक्षिणी ध्रुव चुंबक के उत्तरी ध्रुव की ओर इंगित करता है । कम्पास के उत्तरी ध्रुव को चुंबक के उत्तरी ध्रुव की ओर निर्देशित किया जाता है।

4. ✓ सुई का दक्षिणी ध्रुव चुंबक के उत्तरी ध्रुव की ओर इंगित करता है। कम्पास के उत्तरी ध्रुव को चुंबक के उत्तरी ध्रुव से दूर निर्देशित किया जाता है।

Question Number : 51 Question Id : 54592723079 Question Type : MCQ Option Shuffling : Yes
Correct Marks : 1 Wrong Marks : 0.25

What will happen if excess of CuSO_4 is added in Biuret Test?

Options :

1. ✓ Solution will be of blue colour instead of violet colour.
2. ✗ Solution will be of violet colour instead of blue colour
3. ✗ Solution will be of green colour instead of violet colour
4. ✗ Solution will be of red colour instead of violet colour

Question Number : 51 Question Id : 54592723079 Question Type : MCQ Option Shuffling : Yes
Correct Marks : 1 Wrong Marks : 0.25

यदि बाइयूरेट परीक्षण में CuSO_4 को अधिक मात्रा में जोड़ा जाता है तो क्या होगा?

Options :

1. ✓ बैंगनी की बजाय विलयन नीले रंग का होगा।
2. ✗ नीले रंग के बजाय विलयन बैंगनी रंग का होगा।
3. ✗ बैंगनी रंग के बजाय विलयन हरे रंग का होगा।
4. ✗ बैंगनी रंग के बजाय विलयन लाल रंग का होगा।

Question Number : 52 Question Id : 54592723080 Question Type : MCQ Option Shuffling : Yes
Correct Marks : 1 Wrong Marks : 0.25

Cell type is Eukaryotic. Cell wall is present but without cellulose. Nuclear membrane is present. Mode of nutrition is Saprophytic. Identify the Kingdom.

Options :

1. ✗ Monera

- 2. ✖ Protista
- 3. ✔ Fungi
- 4. ✖ Animalia

Question Number : 52 Question Id : 54592723080 Question Type : MCQ Option Shuffling : Yes
Correct Marks : 1 Wrong Marks : 0.25

कोशिका का प्रकार यूकैरियोटिक है। कोशिका भित्ति उपस्थित है, परन्तु सेल्यूलोस रहित है। केन्द्रक झिल्ली उपस्थित होती है। पोषण की विधि मृतपोशी है। जगत को पहचाने।

Options :

- 1. ✖ मोनेरा
- 2. ✖ प्रॉटिस्टा
- 3. ✔ कवक (फंजाई)
- 4. ✖ ऐनिमेलिया

Question Number : 53 Question Id : 54592723081 Question Type : MCQ Option Shuffling : Yes
Correct Marks : 1 Wrong Marks : 0.25

Bacilli is a:

Options :

- 1. ✖ Virus
- 2. ✖ Fungus
- 3. ✔ Bacteria
- 4. ✖ Type of cell

Question Number : 53 Question Id : 54592723081 Question Type : MCQ Option Shuffling : Yes
Correct Marks : 1 Wrong Marks : 0.25

बेसिलाई क्या है?

Options :

- 1. ✖ वाइरस
- 2. ✖ कवक

3. ✓ जीवाणु

4. ✖ कोशिका का प्रकार

Question Number : 54 Question Id : 54592723082 Question Type : MCQ Option Shuffling : Yes

Correct Marks : 1 Wrong Marks : 0.25

Mark the correct statement regarding Energy flow in a food chain.

Options :

1. ✖ Flow of energy is bidirectional.

2. ✓ The energy that is captured by the autotrophs does not revert back to the solar input.

3. ✖ The energy which passes to the herbivores come back to autotrophs.

4. ✖ As it moves progressively through the various trophic levels it could be available to some levels.

Question Number : 54 Question Id : 54592723082 Question Type : MCQ Option Shuffling : Yes

Correct Marks : 1 Wrong Marks : 0.25

ऊर्जा प्रवाह से संबंधित सही कथन को चिन्हित करे -

Options :

1. ✖ ऊर्जा का प्रवाह द्विदिशिक होता है।

2. ✓ स्वपोषी जीवों द्वारा ग्रहण की गयी ऊर्जा पुनः सौर ऊर्जा में परिवर्तित नहीं होती है।

3. ✖ शाकाहारियों को स्थानांतरित की गई ऊर्जा पुनः स्वपोषी जीवों को उपलब्ध होती है।

4. ✖ यह विभिन्न पोषी स्तरों पर क्रमिक स्थानांतरित होती है ,अपने से पहले कुछ स्तरों के लिए उपलब्ध हो सकती है।

Question Number : 55 Question Id : 54592723083 Question Type : MCQ Option Shuffling : Yes

Correct Marks : 1 Wrong Marks : 0.25

Who discovered the vaccine for small pox?

Options :

1. ✖ Alexander Fleming
2. ✔ Edward Jenner
3. ✖ Robert Köch
4. ✖ Louis Pasteur

Question Number : 55 Question Id : 54592723083 Question Type : MCQ Option Shuffling : Yes

Correct Marks : 1 Wrong Marks : 0.25

चेचक के टीके की खोज किसने की थी?

Options :

1. ✖ अलेक्जेंडर फ्लेमिंग
2. ✔ एडवर्ड जेनर
3. ✖ रॉबर्ट कोच
4. ✖ लुई पास्चर

Question Number : 56 Question Id : 54592723084 Question Type : MCQ Option Shuffling : Yes

Correct Marks : 1 Wrong Marks : 0.25

Indus originates from a glacier near Bokhar Chu. Mark the correct statement regarding Bokhar Chu:

Options :

1. ✖ It is in the Uttarakhand region.
2. ✔ It is in the Tibetan region.
3. ✖ It is in the Zaskar range.
4. ✖ It is in the Aravalli range.

Question Number : 56 Question Id : 54592723084 Question Type : MCQ Option Shuffling : Yes

Correct Marks : 1 Wrong Marks : 0.25

सिंधु की उत्पत्ति बोखार चू के पास एक ग्लेशियर से हुई है। बोकर चू के संबंध में सही कथन अंकित करें:

Options :

1. ✖ यह उत्तराखंड क्षेत्र में है।
2. ✔ यह तिब्बती क्षेत्र में है।
3. ✖ यह जंस्कर श्रेणी में है।
4. ✖ यह अरावली श्रेणी में है।

Question Number : 57 Question Id : 54592723085 Question Type : MCQ Option Shuffling : Yes
Correct Marks : 1 Wrong Marks : 0.25

Naga Hills are part of which of the following?

Options :

1. ✔ The Eastern Hills
2. ✖ Western Ghat
3. ✖ Aravali Range
4. ✖ Uttarakhand Himalayas

Question Number : 57 Question Id : 54592723085 Question Type : MCQ Option Shuffling : Yes
Correct Marks : 1 Wrong Marks : 0.25

नागा पहाड़ियों (हिल्स) निम्नलिखित में से किसका हिस्सा हैं?

Options :

1. ✔ पूर्वी पहाड़ियों
2. ✖ पश्चिमी घाट
3. ✖ अरावली रेंज
4. ✖ उत्तराखंड हिमालय

Question Number : 58 Question Id : 54592723086 Question Type : MCQ Option Shuffling : Yes
Correct Marks : 1 Wrong Marks : 0.25

This is the extended margin of each continent occupied by relatively shallow seas and gulfs. Identify this relief feature.

Options :

1. ✖ Continental Slope
2. ✔ Continental shelf

3. ✖ Deep Sea Plain

4. ✖ The Oceanic deeps

Question Number : 58 Question Id : 54592723086 Question Type : MCQ Option Shuffling : Yes

Correct Marks : 1 Wrong Marks : 0.25

यह प्रत्येक महाद्वीप का विस्तृत सीमांत होता है, जो अपेक्षावृत्त उथले समुद्रों तथा खाड़ियों से घिरा होता है। इस उच्चावच लक्षण को पहचाने।

Options :

1. ✖ महाद्वीपीय ढाल

2. ✔ महाद्वीपीय शेल्फ

3. ✖ गहरे समुद्री मैदान

4. ✖ महासागरीय गभीर

Question Number : 59 Question Id : 54592723087 Question Type : MCQ Option Shuffling : Yes

Correct Marks : 1 Wrong Marks : 0.25

Which of the following Kharif crops are grown in Southern India during June - September season?

Options :

1. ✔ Jowar and Groundnut

2. ✖ Wheat and Gram

3. ✖ Mustard and Barley

4. ✖ Rapeseeds only

Question Number : 59 Question Id : 54592723087 Question Type : MCQ Option Shuffling : Yes

Correct Marks : 1 Wrong Marks : 0.25

निम्नलिखित में से कौन सी खरीफ फसलें दक्षिणी भारत में जून - सितंबर के मौसम में उगाई जाती हैं?

Options :

1. ✔ ज्वार और मूंगफली

2. ✖ गेहूं और चना
3. ✖ सरसों और जौ
4. ✖ केवल कैनोला के बीज

Question Number : 60 Question Id : 54592723088 Question Type : MCQ Option Shuffling : Yes
Correct Marks : 1 Wrong Marks : 0.25

Rainfed areas often experience erosion of soil by which of the following method?

Options :

1. ✖ Wind erosion only
2. ✖ Water erosion only
3. ✔ Wind erosion and Water erosion
4. ✖ These areas never experience soil erosion

Question Number : 60 Question Id : 54592723088 Question Type : MCQ Option Shuffling : Yes
Correct Marks : 1 Wrong Marks : 0.25

वर्षा आधारित क्षेत्र अक्सर निम्न में से किस विधि से मृदा अपरदन का अनुभव करते हैं?

Options :

1. ✖ केवल वायु अपरदन
2. ✖ केवल जल अपरदन
3. ✔ वायु अपरदन और जल अपरदन
4. ✖ यह क्षेत्र कभी भी मृदा अपरदन का अनुभव नहीं करते हैं।

General Awareness2

Group Number :	4
Group Id :	5459271144
Group Maximum Duration :	0
Group Minimum Duration :	0
Show Attended Group? :	No
Edit Attended Group? :	No
Break time:	0

Group Marks:	20
Is this Group for Examiner?:	No
Revisit allowed for group Instructions? :	Yes
Maximum Instruction Time:	0
Minimum Instruction Time:	0

General Awareness2

Section Id :	5459271144
Section Number :	1
Section type :	Online
Mandatory or Optional:	Mandatory
Number of Questions:	20
Number of Questions to be attempted:	20
Section Marks:	20

Sub-Section Number:	1
Sub-Section Id:	5459271372
Question Shuffling Allowed :	Yes

Question Number : 61 Question Id : 54592723089 Question Type : MCQ Option Shuffling : Yes
Correct Marks : 1 Wrong Marks : 0.25

Which of the following is not a physical factor responsible for the spatial distribution of population?

Options :

1. ✖ Availability of water
2. ✖ Climate of a region
3. ✔ Evolution of settled agriculture
4. ✖ Terrain of a region

Question Number : 61 Question Id : 54592723089 Question Type : MCQ Option Shuffling : Yes
Correct Marks : 1 Wrong Marks : 0.25

निम्नलिखित में से कौन सा जनसंख्या के स्थानिक वितरण के लिए जिम्मेदार भौतिक कारक नहीं है?

Options :

1. ✖ पानी की उपलब्धता
2. ✖ एक क्षेत्र की जलवायु

3. ✓ स्थाई कृषि का विकास
4. ✖ एक क्षेत्र का भूखंड

Question Number : 62 Question Id : 54592723090 Question Type : MCQ Option Shuffling : Yes
Correct Marks : 1 Wrong Marks : 0.25

Which of the following Indus Valley sites are present in India?

Options :

1. ✖ Only Kot Diji and Nageshwar
2. ✓ Only Nageshwar and Banawali
3. ✖ Only Kot Diji and Ganwaeriwala
4. ✖ Only Ganweriwala and Banawali

Question Number : 62 Question Id : 54592723090 Question Type : MCQ Option Shuffling : Yes
Correct Marks : 1 Wrong Marks : 0.25

निम्नलिखित में से कौन से सिंधु घाटी के स्थान भारत में मौजूद हैं?

Options :

1. ✖ केवल कोट दीजी और नागेश्वर
2. ✓ केवल नागेश्वर और बनवाली
3. ✖ केवल कोट दीजी और गंवेरीवाला
4. ✖ केवल गंवेरीवाला और बनवाली

Question Number : 63 Question Id : 54592723091 Question Type : MCQ Option Shuffling : Yes
Correct Marks : 1 Wrong Marks : 0.25

Mark the correct match of Vedic era terminologies with their meanings:

Options :

1. ✖ Mlechchha - People who were engaged with “polluting” activities
2. ✓ Nishada - People who lived in forests
3. ✖ Chandala - People who spoke non-Sanskritic languages

4. ✖ Chandala - People who lived in forests

Question Number : 63 Question Id : 54592723091 Question Type : MCQ Option Shuffling : Yes
Correct Marks : 1 Wrong Marks : 0.25

वैदिक युग की शब्दावली का सही मिलान उनके अर्थों के साथ करें:

Options :

1. ✖ मलेच्छ - जो 'दूषित' कार्य से जुड़े थे
2. ✔ निषाद - जो लोग जंगलों में रहते थे
3. ✖ चाण्डाल - जो लोग गैर-संस्कृत भाषा बोलते थे
4. ✖ चाण्डाल - जो लोग जंगलों में रहते थे

Question Number : 64 Question Id : 54592723092 Question Type : MCQ Option Shuffling : Yes
Correct Marks : 1 Wrong Marks : 0.25

During medieval era, Al - Biruni wrote (i) _____, whereas (ii) _____ was written by Ibn Battuta.

Options :

1. ✖ (i) Rihla, (ii) Kitab - ul-Hind
2. ✖ (i) Rihla, (ii) Akbar Nama
3. ✖ (i) Kitab - ul-hind, (ii) Akbarnama
4. ✔ (i) Kitab - ul-hind, (ii) Rihla

Question Number : 64 Question Id : 54592723092 Question Type : MCQ Option Shuffling : Yes
Correct Marks : 1 Wrong Marks : 0.25

मध्यकालीन युग के दौरान, अल - बिरुनी ने (i) _____ लिखा था, जबकि (ii) _____ इब्न बतूता द्वारा लिखा गया था।

Options :

1. ✖ (i) रिहला, (ii) किताब - उल-हिंद
2. ✖ (i) रिहला, (ii) अकबर नामा
3. ✖ (i) किताब - उल-हिंद, (ii) अकबरनामा
4. ✔ (i) किताब - उल-हिंद, (ii) रिहला

Question Number : 65 Question Id : 54592723093 Question Type : MCQ Option Shuffling : Yes

Correct Marks : 1 Wrong Marks : 0.25

Which of the following events happened in the year 1527?

Options :

1. ✖ Babur defeated Ibrahim Lodhi and his Afghan supporters at Panipat.
2. ✔ Babur defeated Rana Sanga, Rajput rulers and allies at Khanua.
3. ✖ Babur defeated the Rajputs at Chanderi.
4. ✖ Babur defeated Sher Shah Suri at Lucknow.

Question Number : 65 Question Id : 54592723093 Question Type : MCQ Option Shuffling : Yes

Correct Marks : 1 Wrong Marks : 0.25

वर्ष 1527 में निम्नलिखित में से कौन सी घटना घटी?

Options :

1. ✖ बाबर ने पानीपत में इब्राहिम लोधी और उसके अफगान समर्थकों को हराया।
2. ✔ बाबर ने खानुआ में राणा सांगा, राजपूत शासकों और उनके सहयोगियों को हराया।
3. ✖ चंदेरी में बाबर ने राजपूतों को हराया।
4. ✖ लखनऊ में बाबर ने शेरशाह सूरी को हराया।

Question Number : 66 Question Id : 54592723094 Question Type : MCQ Option Shuffling : Yes

Correct Marks : 1 Wrong Marks : 0.25

In which year did Mahatma Gandhi return to India from South Africa?

Options :

1. ✖ 1910
2. ✖ 1912
3. ✔ 1915

4. ✖ 1918

Question Number : 66 Question Id : 54592723094 Question Type : MCQ Option Shuffling : Yes
Correct Marks : 1 Wrong Marks : 0.25

महात्मा गांधी किस वर्ष में दक्षिण अफ्रीका से भारत लौटे थे?

Options :

1. ✖ 1910

2. ✖ 1912

3. ✔ 1915

4. ✖ 1918

Question Number : 67 Question Id : 54592723095 Question Type : MCQ Option Shuffling : Yes
Correct Marks : 1 Wrong Marks : 0.25

In which of the following movement did Gandhiji didn't participate himself, although gave his blessings?

Options :

1. ✔ Protests against the Simon Commission

2. ✖ Ahmedabad Mill Strike

3. ✖ Protests against the Rowlatt Act

4. ✖ Protests against Division of Bengal

Question Number : 67 Question Id : 54592723095 Question Type : MCQ Option Shuffling : Yes
Correct Marks : 1 Wrong Marks : 0.25

निम्नलिखित में से किस आंदोलन में गांधीजी ने स्वयं भाग नहीं लिया था, हालांकि उन्होंने आशीर्वाद दिया था?

Options :

1. ✔ साइमन आयोग के खिलाफ विरोध प्रदर्शन

2. ✖ अहमदाबाद मिल हड़ताल

3. ✖ रॉलेट ऐक्ट का विरोध

4. ✖ बंगाल विभाजन के खिलाफ विरोध प्रदर्शन

Question Number : 68 Question Id : 54592723096 Question Type : MCQ Option Shuffling : Yes
Correct Marks : 1 Wrong Marks : 0.25

Find the odd one out with respect to their profession:

Options :

1. ✖ Raghuram Rajan
2. ✖ Urijit Patel
3. ✖ C.Rangarajan
4. ✔ Amartya Sen

Question Number : 68 Question Id : 54592723096 Question Type : MCQ Option Shuffling : Yes
Correct Marks : 1 Wrong Marks : 0.25

पेशे के संबंध में विषम विकल्प का चयन करें:

Options :

1. ✖ रघुराम राजन
2. ✖ उर्जित पटेल
3. ✖ सी. रंगराजन
4. ✔ अमर्त्य सेन

Question Number : 69 Question Id : 54592723097 Question Type : MCQ Option Shuffling : Yes
Correct Marks : 1 Wrong Marks : 0.25

Ms. Teejan Bai has been awarded the Padma Vibhushan for her contribution in the field of:

Options :

1. ✖ Public Affairs
2. ✖ Trade and Industry-Infrastructure
3. ✖ Art-Acting-Theatre
4. ✔ Art-Vocals-Folk

Question Number : 69 Question Id : 54592723097 Question Type : MCQ Option Shuffling : Yes
Correct Marks : 1 Wrong Marks : 0.25

सुश्री तीजन बाई को किस क्षेत्र में उनके योगदान के लिए पद्म विभूषण से सम्मानित किया गया है?

Options :

1. ✖ सार्वजनिक मामले
2. ✖ व्यापार और उद्योग-बुनियादी ढांचा
3. ✖ कला-अभिनय-थियेटर
4. ✔ कला-गायन-लोक

Question Number : 70 Question Id : 54592723098 Question Type : MCQ Option Shuffling : Yes
Correct Marks : 1 Wrong Marks : 0.25

Out of the following groups of books, which group has all the books written by Amish Tripathi?

Options :

1. ✖ The Immortals of Meluha, The Krishna Key, Sita-Warrior of Mithila
2. ✖ Scion of Ikshavaku, Jaya, The Oath of the Vayuputras
3. ✔ Raavan: Enemy of Aryavarta, Scion of Ikshavaku, The Secret of the Nagas
4. ✖ Keepers of the Kalchakra, Chanakya's Chant, The Oath of the Vayuputras

Question Number : 70 Question Id : 54592723098 Question Type : MCQ Option Shuffling : Yes
Correct Marks : 1 Wrong Marks : 0.25

पुस्तकों के निम्नलिखित समूहों में से, कौनसे समूह के सारे पुस्तकें अमिश त्रिपाठी द्वारा लिखित हैं?

Options :

1. ✖ मेलूहा के मृत्युंजय (The Immortals of Meluha), कृष्णा कुंजी (The Krishna Key), सीता- मिथिला की योद्धा (Sita-Warrior of Mithila)

2. ✖ इक्ष्वाकु के वंशज (Scion of Ikshavaku), जया (Jaya), वायुपुत्रों की शपथ (The Oath of the Vayuputras)
3. ✔ रावण: आर्यावर्त के शत्रु (Raavan: Enemy of Aryavarta), इक्ष्वाकु के वंशज (Scion of Ikshavaku), नागाओं का रहस्य (The Secret of the Nagas)
4. ✖ कालचक्र के रखवाले (Keepers of the Kalchakra), चाणक्य का जप (Chanakya's Chant), वायुपुत्रों की शपथ (The Oath of the Vayuputras)

Question Number : 71 Question Id : 54592723099 Question Type : MCQ Option Shuffling : Yes
Correct Marks : 1 Wrong Marks : 0.25

This organization is headquartered in Mumbai and is headed by Ajay Tyagi. Which of the following organization is being talked about?

Options :

1. ✖ IRDAI (Insurance Regulatory and Development Authority)
2. ✖ NABARD (National Bank For Agriculture And Rural Development)
3. ✖ LIC (Life Insurance Corporation of India)
4. ✔ SEBI (Securities and Exchange Board of India)

Question Number : 71 Question Id : 54592723099 Question Type : MCQ Option Shuffling : Yes
Correct Marks : 1 Wrong Marks : 0.25

इस संगठन का मुख्यालय मुंबई में है और इसका नेतृत्व अजय त्यागी करते हैं। निम्नलिखित में से किस संगठन के बारे में बात की जा रही है?

Options :

1. ✖ आई.आर.डी.ए.आई. (बीमा विनियामक और विकास प्राधिकरण)
2. ✖ नाबार्ड (राष्ट्रीय कृषि और ग्रामीण विकास बैंक)

3. ✖ एल.आई.सी. (भारतीय जीवन बीमा निगम)
4. ✔ सेबी (भारतीय प्रतिभूति और विनिमय बोर्ड)

Question Number : 72 Question Id : 54592723100 Question Type : MCQ Option Shuffling : Yes
Correct Marks : 1 Wrong Marks : 0.25

Mark the incorrect statements about the International Solar Alliance or ISA:

Options :

1. ✖ It was founded in the year 2015.
2. ✖ More than a 122 countries are members to this organization.
3. ✖ It was founded at Paris, but its headquarters is in Gurugram.
4. ✔ It is a common platform for cooperation among countries lying fully or partially on Equator.

Question Number : 72 Question Id : 54592723100 Question Type : MCQ Option Shuffling : Yes
Correct Marks : 1 Wrong Marks : 0.25

अंतर्राष्ट्रीय सौर गठबंधन या आईएसए के बारे में गलत कथन को चिह्नित करें:

Options :

1. ✖ इसकी स्थापना-वर्ष 2015 में हुई थी।
2. ✖ 122 से अधिक देश इस संगठन के सदस्य हैं।
3. ✖ इसकी स्थापना पेरिस में हुई थी, लेकिन इसका मुख्यालय गुरुग्राम में है।
4. ✔ यह भूमध्य रेखा पे आने वाले देश का एक सामान्य मंच है।

Question Number : 73 Question Id : 54592723101 Question Type : MCQ Option Shuffling : Yes
Correct Marks : 1 Wrong Marks : 0.25

14 June is celebrated as the World Blood Donor Day on the occasion of the birth-anniversary of a famous biologist. Who is he and by what name is he also known as?

Options :

1. ✓ Karl Landsteiner, Father of Blood Groups
2. ✖ August Krogh, Father of Blood Transfusion
3. ✖ Robert Koch, Father of Blood Groups
4. ✖ William Einthoven, Father of Blood Transfusion

Question Number : 73 Question Id : 54592723101 Question Type : MCQ Option Shuffling : Yes
Correct Marks : 1 Wrong Marks : 0.25

14 जून को एक प्रसिद्ध जीवविज्ञानी के जन्म-दिवस के अवसर को विश्व रक्तदाता दिवस के रूप में मनाया जाता है। वह कौन है और उन्हें किस नाम से जाना जाता है?

Options :

1. ✓ कार्ल लैंडस्टीनर, रक्त समूहों के जनक
2. ✖ अगस्त क्रोग, रक्त आधान के जनक
3. ✖ रॉबर्ट कोच, रक्त समूहों के जनक
4. ✖ विलियम एंथोवन, रक्त आधान के जनक

Question Number : 74 Question Id : 54592723102 Question Type : MCQ Option Shuffling : Yes
Correct Marks : 1 Wrong Marks : 0.25

Which of the following is a Constitutional Body?

Options :

1. ✖ NITI Aayog
2. ✓ State Public Service Commission
3. ✖ Central Information Commission
4. ✖ National Human Rights Commission

Question Number : 74 Question Id : 54592723102 Question Type : MCQ Option Shuffling : Yes
Correct Marks : 1 Wrong Marks : 0.25

निम्नलिखित में से कौन एक संवैधानिक निकाय है?

Options :

1. ✖ नीति आयोग
2. ✔ राज्य लोक सेवा आयोग
3. ✖ केंद्रीय सूचना आयोग
4. ✖ राष्ट्रीय मानवाधिकार आयोग

Question Number : 75 Question Id : 54592723103 Question Type : MCQ Option Shuffling : Yes
Correct Marks : 1 Wrong Marks : 0.25

Which of the following Article of the Indian Constitution can be said includes the provisions of the National Food Security Act, 2013?

Options :

1. ✖ Article 14
2. ✖ Article 18
3. ✖ Article 20
4. ✔ Article 21

Question Number : 75 Question Id : 54592723103 Question Type : MCQ Option Shuffling : Yes
Correct Marks : 1 Wrong Marks : 0.25

भारतीय संविधान के निम्नलिखित में से किस अनुच्छेद में राष्ट्रीय खाद्य सुरक्षा अधिनियम, 2013 के प्रावधान शामिल हो है यह कह सकते हैं?

Options :

1. ✖ अनुच्छेद 14
2. ✖ अनुच्छेद 18
3. ✖ अनुच्छेद 20
4. ✔ अनुच्छेद 21

Question Number : 76 Question Id : 54592723104 Question Type : MCQ Option Shuffling : Yes

Correct Marks : 1 Wrong Marks : 0.25

Which of the following pairs of Constitutional Amendment Acts are related to the matter of defection of Parliamentary members from one political party to another?

Options :

1. ✓ 52nd Amendment Act and 91st Amendment Act
2. ✗ 73rd Amendment Act and 77th Amendment Act
3. ✗ 42nd Amendment Act and 55th Amendment Act
4. ✗ 35th Amendment Act and 47th Amendment Act

Question Number : 76 Question Id : 54592723104 Question Type : MCQ Option Shuffling : Yes

Correct Marks : 1 Wrong Marks : 0.25

निम्नलिखित संवैधानिक संशोधन अधिनियमों में से कौन सी जोड़ी संसदीय सदस्यों के एक राजनीतिक दल से दूसरे में दलबदल के मामले से संबंधित है?

Options :

1. ✓ 52वां संशोधन अधिनियम और 91वां संशोधन अधिनियम
2. ✗ 73वां संशोधन अधिनियम और 77वां संशोधन अधिनियम
3. ✗ 42वां संशोधन अधिनियम और 55वां संशोधन अधिनियम
4. ✗ 35वां संशोधन अधिनियम और 47वां संशोधन अधिनियम

Question Number : 77 Question Id : 54592723105 Question Type : MCQ Option Shuffling : Yes

Correct Marks : 1 Wrong Marks : 0.25

Which of the following features was not a provision of the Regulating Act of 1773?

Options :

1. ✗ It designated the Governor of Bengal as the 'Governor-General of Bengal'
2. ✗ It provided for the establishment of a Supreme Court at Calcutta comprising one chief justice and three other judges

3. ✓ It created a new body called Board of Control to manage the political affairs

4. ✖ It prohibited the servants of the Company from engaging in any private trade or accepting presents or bribes from the 'natives'

Question Number : 77 Question Id : 54592723105 Question Type : MCQ Option Shuffling : Yes

Correct Marks : 1 Wrong Marks : 0.25

निम्नलिखित में से कौन सी विशेषता 1773 के विनियमन अधिनियम (रेग्युलेटिंग एक्ट, 1773) का प्रावधान नहीं थी?

Options :

1. ✖ इसने बंगाल के गवर्नर को 'बंगाल के गवर्नर-जनरल' के रूप में नामित किया था।
2. ✖ इसने कलकत्ता में सर्वोच्च न्यायालय की स्थापना की जिसमें एक मुख्य न्यायाधीश और तीन अन्य न्यायाधीशों को शामिल किया
3. ✓ इसने राजनीतिक मामलों का प्रबंधन करने के लिए बोर्ड ऑफ कंट्रोल नामक एक नया निकाय बनाया
4. ✖ इसने कंपनी के अधिकारियों को किसी भी निजी व्यापार में संलग्न होने या 'मूल निवासियों' से भेंट या रिश्वत स्वीकार करने से रोका

Question Number : 78 Question Id : 54592723106 Question Type : MCQ Option Shuffling : Yes

Correct Marks : 1 Wrong Marks : 0.25

(i)_____ is one of the greatest Indian (ii)_____.

Options :

1. ✖ (i) Balbir Singh Dosanjh (ii) Sprinters
2. ✖ (i) Prakash Padukone (ii) Tennis players
3. ✓ (i) Geet Sethi (ii) Billiards Players
4. ✖ (i) Vijender Singh Dosanjh (ii) Wrestlers

Question Number : 78 Question Id : 54592723106 Question Type : MCQ Option Shuffling : Yes
Correct Marks : 1 Wrong Marks : 0.25

(i) _____ सबसे महान भारतीय (ii) _____ में से एक है।

Options :

1. ✖ (i) बलबीर सिंह दोसांझ (ii) धावकों
2. ✖ (i) प्रकाश पादुकोण (ii) टेनिस खिलाड़ियों
3. ✔ (i) गीत सेठी (ii) बिलियर्ड्स खिलाड़ियों
4. ✖ (i) विजेन्द्र सिंह दोसांझ (ii) पहलवान

Question Number : 79 Question Id : 54592723107 Question Type : MCQ Option Shuffling : Yes
Correct Marks : 1 Wrong Marks : 0.25

Which of the following are teams of the Pro Kabaddi League?

Options :

1. ✖ Only Bengaluru Bulls, Dabang Mumbai and Punjab Warriors
2. ✖ Only Puneri Paltan and Awadhe Warriors
3. ✖ Only Dabang Mumbai, Puneri Paltan and Awadhe Warriors
4. ✔ Only Bengaluru Bulls and Puneri Paltan

Question Number : 79 Question Id : 54592723107 Question Type : MCQ Option Shuffling : Yes
Correct Marks : 1 Wrong Marks : 0.25

प्रो कबड्डी लीग की टीमों निम्नलिखित में से कौन सी हैं?

Options :

1. ✖ केवल बेंगलुरु बुल्स, दबंग मुंबई और पंजाब वारियर्स
2. ✖ केवल पुनेरी पल्टन और अवध वारियर्स
3. ✖ केवल दबंग मुंबई, पुनेरी पल्टन और अवध वारियर्स
4. ✔ केवल बेंगलुरु बुल्स और पुनेरी पल्टन

Question Number : 80 Question Id : 54592723108 Question Type : MCQ Option Shuffling : Yes
Correct Marks : 1 Wrong Marks : 0.25

Which of the following games is often referred to as “The Beautiful Game”?

Options :

1. ✖ Cricket
2. ✔ Football
3. ✖ Tennis
4. ✖ Badminton

Question Number : 80 Question Id : 54592723108 Question Type : MCQ Option Shuffling : Yes

Correct Marks : 1 Wrong Marks : 0.25

निम्नलिखित में से किस खेल को अक्सर "द ब्यूटीफुल गेम" कहा जाता है?

Options :

1. ✖ क्रिकेट
2. ✔ फुटबॉल
3. ✖ टेनिस
4. ✖ बैडमिंटन



Arithmetic Ability1

Group Number :	5
Group Id :	5459271145
Group Maximum Duration :	0
Group Minimum Duration :	0
Show Attended Group? :	No
Edit Attended Group? :	No
Break time:	0
Group Marks:	20
Is this Group for Examiner?:	No
Revisit allowed for group Instructions? :	Yes
Maximum Instruction Time:	0
Minimum Instruction Time:	0

Arithmetic Ability1

Section Id : 5459271145
 Section Number : 1
 Section type : Online
 Mandatory or Optional: Mandatory
 Number of Questions: 20
 Number of Questions to be attempted: 20
 Section Marks: 20

Sub-Section Number: 1
 Sub-Section Id: 5459271373
 Question Shuffling Allowed : Yes

Question Number : 81 Question Id : 54592723109 Question Type : MCQ Option Shuffling : Yes
 Correct Marks : 1 Wrong Marks : 0.25

What should come in place of the question mark (?) in the following question?

$$\sqrt{12.96} \div 0.6 = ?$$

Options :

1. ✓ 6
2. ✗ 0.06
3. ✗ 0.6
4. ✗ 60

Question Number : 81 Question Id : 54592723109 Question Type : MCQ Option Shuffling : Yes
 Correct Marks : 1 Wrong Marks : 0.25

निम्नलिखित प्रश्न में प्रश्नवाचक चिन्ह (?) के स्थान पर क्या आना चाहिए?

$$\sqrt{12.96} \div 0.6 = ?$$

Options :

1. ✓ 6
2. ✗ 0.06

3. ✖ 0.6

4. ✖ 60

Question Number : 82 Question Id : 54592723110 Question Type : MCQ Option Shuffling : Yes
Correct Marks : 1 Wrong Marks : 0.25

What should come in place of the question mark (?) in the following question?

$$\frac{(2.45)^3 + 7.35 (1.55)^2 - 4.65(2.45)^2 - (1.55)^3}{(2.45)^2 - 2 \times 2.45 \times 1.55 + (1.55)^2} = ?$$

Options :

1. ✖ 0.8

2. ✔ 0.9

3. ✖ 0.7

4. ✖ 0.6

Question Number : 82 Question Id : 54592723110 Question Type : MCQ Option Shuffling : Yes
Correct Marks : 1 Wrong Marks : 0.25

निम्नलिखित प्रश्न में प्रश्नवाचक चिन्ह (?) के स्थान पर क्या आना चाहिए?

$$\frac{(2.45)^3 + 7.35 (1.55)^2 - 4.65(2.45)^2 - (1.55)^3}{(2.45)^2 - 2 \times 2.45 \times 1.55 + (1.55)^2} = ?$$

Options :

1. ✖ 0.8

2. ✔ 0.9

3. ✖ 0.7

4. ✖ 0.6

Question Number : 83 Question Id : 54592723111 Question Type : MCQ Option Shuffling : Yes
Correct Marks : 1 Wrong Marks : 0.25

What should come in place of the question mark (?) in the following question?

$$4\frac{2}{3} + 3\frac{1}{6} - 5\frac{2}{6} = ?$$

Options :

- 1. ✖ 1.5
- 2. ✖ 4.5
- 3. ✖ 3.5
- 4. ✔ 2.5

Question Number : 83 Question Id : 54592723111 Question Type : MCQ Option Shuffling : Yes

Correct Marks : 1 Wrong Marks : 0.25

निम्नलिखित प्रश्न में प्रश्नवाचक चिन्ह (?) के स्थान पर क्या आना चाहिए?

$$4\frac{2}{3} + 3\frac{1}{6} - 5\frac{2}{6} = ?$$

Options :

- 1. ✖ 1.5
- 2. ✖ 4.5
- 3. ✖ 3.5
- 4. ✔ 2.5

Question Number : 84 Question Id : 54592723112 Question Type : MCQ Option Shuffling : Yes

Correct Marks : 1 Wrong Marks : 0.25

What should come in place of the question mark (?) in the following question?

$$\frac{6}{2} \times \frac{8}{4} \div \frac{6}{3} + \frac{10}{2} - \frac{20}{10} \times 5^2 = ?$$

Options :

1. ✖ -41

2. ✖ 41

3. ✔ -42

4. ✖ 42

Question Number : 84 Question Id : 54592723112 Question Type : MCQ Option Shuffling : Yes
Correct Marks : 1 Wrong Marks : 0.25

निम्नलिखित प्रश्न में प्रश्नवाचक चिन्ह (?) के स्थान पर क्या आना चाहिए?

$$\frac{6}{2} \times \frac{8}{4} \div \frac{6}{3} + \frac{10}{2} - \frac{20}{10} \times 5^2 = ?$$

Options :

1. ✖ -41

2. ✖ 41

3. ✔ -42

4. ✖ 42

Question Number : 85 Question Id : 54592723113 Question Type : MCQ Option Shuffling : Yes
Correct Marks : 1 Wrong Marks : 0.25

What should come in place of the question mark (?) in the following question?

$$(0.064) \times (0.4)^7 = (0.4)^? \times (0.0256)$$

Note: For this question, discrepancy is found in question/answer. So, this question is ignored for all candidates.

Options :

1. 7

2. 2

3. 8

4. 6

Question Number : 85 Question Id : 54592723113 Question Type : MCQ Option Shuffling : Yes
Correct Marks : 1 Wrong Marks : 0.25

निम्नलिखित प्रश्न में प्रश्नवाचक चिन्ह (?) के स्थान पर क्या आना चाहिए?

$$(0.064) \times (0.4)^7 = (0.4)^? \times (0.0256)$$

Note: For this question, discrepancy is found in question/answer. So, this question is ignored for all candidates.

Options :

1. 7
2. 2
3. 8
4. 6

Question Number : 86 Question Id : 54592723114 Question Type : MCQ Option Shuffling : Yes
Correct Marks : 1 Wrong Marks : 0.25

What should come in place of the question mark (?) in the following question?

$$240 - 112 + 113 \times 2 \div 2 = ?$$

Options :

1. ✖ 141
2. ✔ 241
3. ✖ 242
4. ✖ 142

Question Number : 86 Question Id : 54592723114 Question Type : MCQ Option Shuffling : Yes
Correct Marks : 1 Wrong Marks : 0.25

निम्नलिखित प्रश्न में प्रश्नवाचक चिन्ह (?) के स्थान पर क्या आना चाहिए?

$$240 - 112 + 113 \times 2 \div 2 = ?$$

Options :

1. ✖ 141

2. ✔ 241

3. ✖ 242

4. ✖ 142

Question Number : 87 Question Id : 54592723115 Question Type : MCQ Option Shuffling : Yes

Correct Marks : 1 Wrong Marks : 0.25

The largest four digit number that is exactly divisible by 11, 7 & 13 is:

Options :

1. ✖ 9990

2. ✖ 9099

3. ✔ 9009

4. ✖ 9909

Question Number : 87 Question Id : 54592723115 Question Type : MCQ Option Shuffling : Yes

Correct Marks : 1 Wrong Marks : 0.25

सबसे बड़ी चार अंकों की संख्या जो 11, 7 और 13 से पूर्णतः विभाज्य है:

Options :

1. ✖ 9990

2. ✖ 9099

3. ✔ 9009

4. ✖ 9909

Question Number : 88 Question Id : 54592723116 Question Type : MCQ Option Shuffling : Yes

Correct Marks : 1 Wrong Marks : 0.25

The smallest number, which when increased by 4 is divisible by each of 10, 12 and 15:

Options :

1. ✖ 55

2. ✔ 56

3. ✖ 58

4. ✖ 60

Question Number : 88 Question Id : 54592723116 Question Type : MCQ Option Shuffling : Yes

Correct Marks : 1 Wrong Marks : 0.25

सबसे छोटी संख्या, जिसमे 4 बढ़ाने पर 10, 12 और 15 प्रत्येक से विभाज्य है:

Options :

1. ✖ 55

2. ✔ 56

3. ✖ 58

4. ✖ 60

Question Number : 89 Question Id : 54592723117 Question Type : MCQ Option Shuffling : Yes

Correct Marks : 1 Wrong Marks : 0.25

Which of the following numbers is divisible by both 11 and 12?

Options :

1. ✖ 4830

2. ✔ 2640

3. ✖ 3584

4. ✖ 4686

Question Number : 89 Question Id : 54592723117 Question Type : MCQ Option Shuffling : Yes
Correct Marks : 1 Wrong Marks : 0.25

निम्नलिखित में से कौन सी संख्या 11 और 12 दोनों से विभाजित है?

Options :

- 1. ✖ 4830
- 2. ✔ 2640
- 3. ✖ 3584
- 4. ✖ 4686

Question Number : 90 Question Id : 54592723118 Question Type : MCQ Option Shuffling : Yes
Correct Marks : 1 Wrong Marks : 0.25

When the sum of the digits of a number is subtracted from the number, then which of the following will completely divide the result?

Options :

- 1. ✖ 6
- 2. ✔ 9
- 3. ✖ 11
- 4. ✖ 5

Question Number : 90 Question Id : 54592723118 Question Type : MCQ Option Shuffling : Yes
Correct Marks : 1 Wrong Marks : 0.25

जब किसी संख्या के अंकों का योग संख्या से घटाया जाता है, तो निम्नलिखित में से कौन सा विकल्प उस परिणाम को पूरी तरह से विभाजित करेगा?

Options :

- 1. ✖ 6
- 2. ✔ 9
- 3. ✖ 11

4. ✖ 5

Question Number : 91 Question Id : 54592723119 Question Type : MCQ Option Shuffling : Yes

Correct Marks : 1 Wrong Marks : 0.25

A shopkeeper sells a product on three successive discounts of $16\frac{2}{3}\%$, 22% and 25% to his customer. The amount of third discount is Rs.225 less than the sum of the amount of first two discounts. What is the selling price of the product?

Options :

1. ✖ Rs.670

2. ✔ Rs.585

3. ✖ Rs.882

4. ✖ Rs.770

Question Number : 91 Question Id : 54592723119 Question Type : MCQ Option Shuffling : Yes

Correct Marks : 1 Wrong Marks : 0.25

एक दुकानदार अपने ग्राहक को $16\frac{2}{3}\%$, 22% और 25% की तीन क्रमिक छूट पर उत्पाद बेचता है। तीसरे छूट की राशि पहले दो छूटों की राशि की तुलना में 225 रुपये कम है। उत्पाद का अवक्रय मूल्य क्या है?

Options :

1. ✖ 670 रुपये

2. ✔ 585 रुपये

3. ✖ 882 रुपये

4. ✖ 770 रुपये

Question Number : 92 Question Id : 54592723120 Question Type : MCQ Option Shuffling : Yes

Correct Marks : 1 Wrong Marks : 0.25

The average income of 70 employees in a colony, which consists of only bank employees and teachers, is Rs.35000. The number of teachers in the colony is four times the number of bank employees. If the average income of the bank employees is Rs.21000, find the average income of teachers.

Options :

1. ✖ Rs.45000

2. ✖ Rs.41600

3. ✔ Rs.38500

4. ✖ Rs.36500

Question Number : 92 Question Id : 54592723120 Question Type : MCQ Option Shuffling : Yes

Correct Marks : 1 Wrong Marks : 0.25

एक कॉलोनी में 70 कर्मचारियों की औसत आय 35000 रुपये हैं, जिसमें केवल बैंक कर्मचारी और शिक्षक हैं। कॉलोनी में शिक्षकों की संख्या बैंक कर्मचारियों की संख्या से चार गुना है। यदि बैंक कर्मचारियों की औसत आय 21000 रुपये है, तो शिक्षकों की औसत आय ज्ञात कीजिए।

Options :

1. ✖ 45000 रुपये

2. ✖ 41600 रुपये

3. ✔ 38500 रुपये

4. ✖ 36500 रुपये

Question Number : 93 Question Id : 54592723121 Question Type : MCQ Option Shuffling : Yes

Correct Marks : 1 Wrong Marks : 0.25

The average height of the students of classes A, B and C are 82 cm, 68 cm and 86 cm respectively. The average height of the classes A and B is 74 cm and that of B and C is 78 cm. What is the average height of classes A, B and C together?

Options :

1. ✔ 79 cm

2. ✖ 80 cm

3. ✖ 81 cm

4. ✖ 82.5 cm

Question Number : 93 Question Id : 54592723121 Question Type : MCQ Option Shuffling : Yes

Correct Marks : 1 Wrong Marks : 0.25

कक्षा A, B और C के छात्रों की औसत ऊंचाई क्रमशः 82 सेमी, 68 सेमी और 86 सेमी है। A और B के छात्रों की औसत 74 सेमी और B और C के छात्रों की औसत औसत ऊंचाई 78 सेमी है। कक्षा A, B और C के छात्रों की एक साथ औसत की औसत ऊंचाई कितनी है?

Options :

1. ✓ 79 सेमी
2. ✗ 80 सेमी
3. ✗ 81 सेमी
4. ✗ 82.5 सेमी

Question Number : 94 Question Id : 54592723122 Question Type : MCQ Option Shuffling : Yes

Correct Marks : 1 Wrong Marks : 0.25

Kiran scored 55 percent of the maximum marks in Hindi and x percent of the maximum marks in English and 75 percent of the maximum marks in Physics. The maximum marks for all the three subjects were same. If the overall percentage of marks scored by Kiran in the three subjects is 63 percent, then find the value of x .

Options :

1. ✓ 59
2. ✗ 56
3. ✗ 62
4. ✗ 61

Question Number : 94 Question Id : 54592723122 Question Type : MCQ Option Shuffling : Yes

Correct Marks : 1 Wrong Marks : 0.25

किरण ने हिंदी में अधिकतम अंक का 55% और अंग्रेजी में अधिकतम अंकों का $x\%$ और भौतिक विज्ञान में अधिकतम अंकों का 75% स्कोर किया। तीनों विषयों के लिए अधिकतम अंक समान थे। यदि तीन विषयों में किरण द्वारा कुल अंकों का प्रतिशत 63% है, तो x का मान ज्ञात कीजिए।

Options :

1. ✓ 59
2. ✗ 56
3. ✗ 62
4. ✗ 61

Question Number : 95 Question Id : 54592723123 Question Type : MCQ Option Shuffling : Yes

Correct Marks : 1 Wrong Marks : 0.25

The value of a machine depreciates at a certain rate for every year. It depreciates by 10 percent in the first year and 20 percent in the second year. If the present value of the machine is Rs.1656, then find the value of the machine two years ago.

Options :

1. ✗ Rs.2400
2. ✗ Rs.2800
3. ✗ Rs.1980
4. ✓ Rs.2300

Question Number : 95 Question Id : 54592723123 Question Type : MCQ Option Shuffling : Yes

Correct Marks : 1 Wrong Marks : 0.25

मशीन का मूल्य प्रत्येक वर्ष के लिए एक निश्चित दर से कम हो जाता है। यह पहले वर्ष में 10% और दूसरे वर्ष में 20% से कम हो जाता है। यदि मशीन का वर्तमान मूल्य 1656 रुपये है, तो दो साल पहले मशीन के मूल्य का पता लगाएं।

Options :

1. ✖ 2400 रुपये
2. ✖ 2800 रुपये
3. ✖ 1980 रुपये
4. ✔ 2300 रुपये

Question Number : 96 Question Id : 54592723124 Question Type : MCQ Option Shuffling : Yes

Correct Marks : 1 Wrong Marks : 0.25

In an election between two contestants A and B, 70 percent of the registered voters cast their votes out of which 10 percent are invalid. A won the election by a majority of 7938 votes which is equal to 28 percent of valid votes. Find the total number of registered voters in the election.

Options :

1. ✖ 52000
2. ✖ 35500
3. ✖ 42600
4. ✔ 45000

Question Number : 96 Question Id : 54592723124 Question Type : MCQ Option Shuffling : Yes

Correct Marks : 1 Wrong Marks : 0.25

दो प्रतियोगियों A और B के बीच चुनाव में, पंजीकृत मतदाताओं में से 70% ने अपने वोट डाले, जिसमें से 10% अमान्य हैं। A 7938 मतों के बहुमत से चुनाव जीता जो वैध मतों के 28% के बराबर है। चुनाव में पंजीकृत मतदाताओं की कुल संख्या ज्ञात कीजिए।

Options :

1. ✖ 52000
2. ✖ 35500
3. ✖ 42600
4. ✔ 45000

Question Number : 97 Question Id : 54592723125 Question Type : MCQ Option Shuffling : Yes

Correct Marks : 1 Wrong Marks : 0.25

Rohit bought an article at a discount of 32 percent. He sold the article for Rs.17000 at a profit of 25 percent. What would be the profit percentage gained by him if he bought the article at a discount of 22 percent and there is no change in the selling price?

Options :

1. ✖ $9\frac{14}{39}\%$
2. ✔ $8\frac{38}{39}\%$
3. ✖ $8\frac{31}{41}\%$
4. ✖ $10\frac{3}{7}\%$

Question Number : 97 Question Id : 54592723125 Question Type : MCQ Option Shuffling : Yes

Correct Marks : 1 Wrong Marks : 0.25

रोहित ने 32% की छूट पर एक उत्पाद खरीदा। उसने 25% के लाभ पर उत्पाद को 17000 रुपये में बेचा। यदि उसने उत्पाद को 22% की छूट पर खरीदा है और विक्रय मूल्य में कोई बदलाव नहीं किया है तो उसके द्वारा प्राप्त लाभ प्रतिशत क्या होगा।

Options :

1. ✖ $9\frac{14}{39}\%$

2. ✔ $8\frac{38}{39}\%$

3. ✖ $8\frac{31}{41}\%$

4. ✖ $10\frac{3}{7}\%$

Question Number : 98 Question Id : 54592723126 Question Type : MCQ Option Shuffling : Yes

Correct Marks : 1 Wrong Marks : 0.25

A product X is marked 56 percent more than its cost price and is sold at a discount of 25 percent to gain m percent profit. What would be the selling price, if the discount given is of Rs.117?

Options :

1. ✖ Rs.234

2. ✖ Rs.400

3. ✔ Rs.351

4. ✖ Rs.379

Question Number : 98 Question Id : 54592723126 Question Type : MCQ Option Shuffling : Yes

Correct Marks : 1 Wrong Marks : 0.25

एक उत्पाद X को उसकी लागत मूल्य से 56% अधिक चिह्नित किया जाता है और इसे m% लाभ प्राप्त करने के लिए 25% की छूट पर बेचा जाता है। विक्रय मूल्य क्या होगा, यदि दी गई छूट 117 रुपये की है?

Options :

1. ✖ 234 रुपये
2. ✖ 400 रुपये
3. ✔ 351 रुपये
4. ✖ 379 रुपये

Question Number : 99 Question Id : 54592723127 Question Type : MCQ Option Shuffling : Yes
Correct Marks : 1 Wrong Marks : 0.25

A washing machine was bought at Rs. P and sold at 25 percent profit. If the cost price reduced by 10 percent and the selling price increased by Rs.900 then the profit percentage would be 50 percent. Find the value of P.

Options :

1. ✔ Rs.9000
2. ✖ Rs.8000
3. ✖ Rs.11000
4. ✖ Rs.14000

Question Number : 99 Question Id : 54592723127 Question Type : MCQ Option Shuffling : Yes
Correct Marks : 1 Wrong Marks : 0.25

एक वॉशिंग मशीन को P रुपये में खरीदा गया और 25% लाभ पर P और बेचा गया। अगर लागत मूल्य 10% कम हो जाता और बिक्री मूल्य में 900 रुपये की वृद्धि होती तो लाभ प्रतिशत 50% होता। P का मान ज्ञात करें।

Options :

1. ✓ 9000 रुपये
2. ✗ 8000 रुपये
3. ✗ 11000 रुपये
4. ✗ 14000 रुपये

Question Number : 100 Question Id : 54592723128 Question Type : MCQ Option Shuffling : Yes
Correct Marks : 1 Wrong Marks : 0.25

The sum of the ages of Virat, Hardik and Mahi is 122 years. Three years ago, the ratio of ages of Virat and Mahi was 8 : 5. The ratio of Hardik's age after two years and Mahi's age one year ago is 5 : 4. Find the age of Hardik three years ago.

Options :

1. ✗ 38 yr
2. ✗ 32 yr
3. ✓ 35 yr
4. ✗ 41 yr

Question Number : 100 Question Id : 54592723128 Question Type : MCQ Option Shuffling : Yes
Correct Marks : 1 Wrong Marks : 0.25

विराट, हार्दिक और माही की उम्र का योग 122 साल है। तीन साल पहले, विराट और माही की उम्र का अनुपात 8: 5 था। दो साल बाद हार्दिक की उम्र और एक साल पहले माही की उम्र का अनुपात 5: 4 है। तीन साल पहले हार्दिक की उम्र का पता लगाएं।

Options :

1. ✗ 38 साल
2. ✗ 32 साल
3. ✓ 35 साल
4. ✗ 41 साल

Arithmetic Ability2

Group Number :	6
Group Id :	5459271146
Group Maximum Duration :	0
Group Minimum Duration :	0
Show Attended Group? :	No
Edit Attended Group? :	No
Break time:	0
Group Marks:	20
Is this Group for Examiner?:	No
Revisit allowed for group Instructions? :	Yes
Maximum Instruction Time:	0
Minimum Instruction Time:	0

Arithmetic Ability2

Section Id :	5459271146
Section Number :	1
Section type :	Online
Mandatory or Optional:	Mandatory
Number of Questions:	20
Number of Questions to be attempted:	20
Section Marks:	20

Sub-Section Number:	1
Sub-Section Id:	5459271374
Question Shuffling Allowed :	Yes

Question Number : 101 Question Id : 54592723129 Question Type : MCQ Option Shuffling : Yes
Correct Marks : 1 Wrong Marks : 0.25

Vivek started a new coaching. The amounts he invested in infrastructure, purchase of goods and marketing are in the ratio of 6: 9: 5 respectively. Out of marketing expenditure 25 percent was spent on local paper ads. If he spent Rs.5000 on local paper ads, then find his total expenditure.

Options :

1. ✓ Rs.80000
2. ✗ Rs.120000
3. ✗ Rs.175000
4. ✗ Rs.140000

Question Number : 101 Question Id : 54592723129 Question Type : MCQ Option Shuffling : Yes

Correct Marks : 1 Wrong Marks : 0.25

विवेक ने एक नई कोचिंग शुरू की। उसने बुनियादी ढांचे में , माल की खरीद और विपणन में क्रमशः 6: 9: 5 के अनुपात में निवेश किया हैं। विपणन व्यय में से 25% स्थानीय कागज विज्ञापनों पर खर्च किया गया था। यदि उसने स्थानीय कागजी विज्ञापनों पर 5000 रुपये खर्च किए, तो उसका कुल व्यय ज्ञात कीजिए।

Options :

1. ✓ 80000 रुपये
2. ✗ 120000 रुपये
3. ✗ 175000 रुपये
4. ✗ 140000 रुपये

Question Number : 102 Question Id : 54592723130 Question Type : MCQ Option Shuffling : Yes

Correct Marks : 1 Wrong Marks : 0.25

The mean proportion of two numbers a and b is such that, it is 24 more than the a and 72 less than b. Find the product of a and b.

Options :

1. ✗ 1764
2. ✓ 1296
3. ✗ 1225
4. ✗ 1444

Question Number : 102 Question Id : 54592723130 Question Type : MCQ Option Shuffling : Yes

Correct Marks : 1 Wrong Marks : 0.25

दो संख्या a और b का माध्य अनुपात ऐसा है, यह a से 24 अधिक है और b से 72 कम है। a और b का गुणनफल ज्ञात कीजिये।

Options :

1. ✖ 1764

2. ✔ 1296

3. ✖ 1225

4. ✖ 1444

Question Number : 103 Question Id : 54592723131 Question Type : MCQ Option Shuffling : Yes
Correct Marks : 1 Wrong Marks : 0.25

Mohan invested Rs.P on simple interest at the rate of 12.5 percent p.a. for 3 years, and he invested Rs.(P+ 2000) on compound interest at the rate of 10 percent p.a. for 2 years. If the total interest earned by him is Rs.8610, find the total amount invested by Mohan.

Options :

1. ✖ Rs.28000

2. ✖ Rs.24000

3. ✔ Rs.30000

4. ✖ Rs.36000

Question Number : 103 Question Id : 54592723131 Question Type : MCQ Option Shuffling : Yes
Correct Marks : 1 Wrong Marks : 0.25

मोहन ने साधारण ब्याज पर रु.P 12.5% प्रति वर्ष की दर से 3 साल के लिए, और चक्रवृद्धि ब्याज पर रु (P + 2000) 10% प्रति वर्ष की दर से 2 वर्षों के लिये निवेश किये । यदि उसके द्वारा अर्जित कुल ब्याज 8610 रुपये है, तो मोहन द्वारा निवेश की गई कुल राशि का पता लगाएं।

Options :

1. ✖ 28000 रुपये

2. ✖ 24000 रुपये

3. ✓ 30000 रुपये

4. ✗ 36000 रुपये

Question Number : 104 Question Id : 54592723132 Question Type : MCQ Option Shuffling : Yes

Correct Marks : 1 Wrong Marks : 0.25

A total of Rs.28500 is invested in two different schemes X and Y on simple interest. Scheme X offers simple interest at 12 percent p.a. for 5 years. Scheme Y offers simple interest at 18 percent for 3 years. If both the schemes give equal amount of interest, then find the amount invested in X.

Options :

1. ✓ Rs.13500

2. ✗ Rs.15000

3. ✗ Rs.14500

4. ✗ Rs.14000

Question Number : 104 Question Id : 54592723132 Question Type : MCQ Option Shuffling : Yes

Correct Marks : 1 Wrong Marks : 0.25

साधारण ब्याज पर दो अलग-अलग योजनाओं X और Y में कुल रु. 28500 का निवेश किया जाता है। योजना X 12% प्रति वर्ष की दर से 5 वर्षों के लिये साधारण ब्याज प्रदान करता है। । योजना Y में 3 साल के लिए 18% प्रति वर्ष की दर से साधारण ब्याज मिलता है। यदि दोनों योजनाएं समान ब्याज देती हैं, तो X में निवेश की गई राशि का पता लगाएं।

Options :

1. ✓ 13500 रुपये

2. ✗ 15000 रुपये

3. ✗ 14500 रुपये

4. ✗ 14000 रुपये

Question Number : 105 Question Id : 54592723133 Question Type : MCQ Option Shuffling : Yes
Correct Marks : 1 Wrong Marks : 0.25

A person invests Rs.24,500 on simple interest at 12 percent p.a. for three years and he invests Rs.15,600 on compound interest at a 15 percent p.a. for two years. Find the difference between the interests earned on the two sums at the end of their respective periods of investment.

Options :

- 1. ✖ Rs.3586
- 2. ✖ Rs.3642
- 3. ✔ Rs.3789
- 4. ✖ Rs.3847

Question Number : 105 Question Id : 54592723133 Question Type : MCQ Option Shuffling : Yes
Correct Marks : 1 Wrong Marks : 0.25

एक व्यक्ति 12% प्रति वर्ष की दर से साधारण ब्याज पर तीन साल के लिए रु.24,500 का निवेश करता है। और उसने 15% प्रति वर्ष की दर से दो साल के लिए चक्रवृद्धि ब्याज पर रु.15,600 का निवेश किया। अपने निवेश की अवधि के अंत में दो राशियों पर अर्जित ब्याज के बीच का अंतर ज्ञात करें।

Options :

- 1. ✖ 3586 रुपये
- 2. ✖ 3642 रुपये
- 3. ✔ 3789 रुपये
- 4. ✖ 3847 रुपये

Question Number : 106 Question Id : 54592723134 Question Type : MCQ Option Shuffling : Yes
Correct Marks : 1 Wrong Marks : 0.25

A boat can travel at 12 kmph in still water. It traveled 135 km upstream in a river and back taking altogether 24 hours. Find the rate at which the stream flows.

Note: For this question, discrepancy is found in question/answer. So, this question is ignored for all candidates.

Options :

1. 3 km/hour
2. 4 km/hour
3. 5 km/hour
4. 6 km/hour

Question Number : 106 Question Id : 54592723134 Question Type : MCQ Option Shuffling : Yes

Correct Marks : 1 Wrong Marks : 0.25

एक नाव शांत जल में 12 किमी प्रति घंटे की रफ्तार से यात्रा कर सकती है। नाव ने नदी में 135 किमी धारा के विपरित यात्रा की और कुल मिलाकर 24 घंटे का समय लिया। वह दर ज्ञात करें जिस पर धारा बहती है।

Note: For this question, discrepancy is found in question/answer. So, this question is ignored for all candidates.

Options :

1. 3 किमी/घंटा
2. 4 किमी/घंटा
3. 5 किमी/घंटा
4. 6 किमी/घंटा

Question Number : 107 Question Id : 54592723135 Question Type : MCQ Option Shuffling : Yes

Correct Marks : 1 Wrong Marks : 0.25

If Abhinav increases his speed by 16 percent, he reaches office 8 minutes earlier. Find the time taken by the Abhinav to reach his office if his speed is decreased by 33.33 percent.

Options :

1. ✖ 50 Minutes
2. ✖ 58 Minutes
3. ✖ 66 Minutes
4. ✔ 87 Minutes

Question Number : 107 Question Id : 54592723135 Question Type : MCQ Option Shuffling : Yes
Correct Marks : 1 Wrong Marks : 0.25

यदि अभिनव अपनी गति 16% बढ़ाता है, तो वह 8 मिनट पहले कार्यालय पहुंचता है। यदि अभिनव की गति 33.33% कम हो जाती है, तो उसके कार्यालय तक पहुंचने में लगने वाला समय ज्ञात करें।

Options :

1. ✖ 50 मिनट
2. ✖ 58 मिनट
3. ✖ 66 मिनट
4. ✔ 87 मिनट

Question Number : 108 Question Id : 54592723136 Question Type : MCQ Option Shuffling : Yes
Correct Marks : 1 Wrong Marks : 0.25

A policeman is 108 meters behind a thief. The policeman runs 16 metres and the thief 13 metres in a minute. In what time will the policeman catch the thief?

Options :

1. ✖ 34 min
2. ✖ 45 min
3. ✔ 36 min
4. ✖ 54 min

Question Number : 108 Question Id : 54592723136 Question Type : MCQ Option Shuffling : Yes
Correct Marks : 1 Wrong Marks : 0.25

एक पुलिस एक चोर का पीछा करते हुए उससे 108 मीटर पीछे है। पुलिस एक मिनट में 16 मीटर और चोर एक मिनट में 13 मीटर दौड़ते हैं। पुलिस कितने समय में चोर को पकड़ लेगी?

Options :

1. ✖ 34 मिनट
2. ✖ 45 मिनट
3. ✔ 36 मिनट
4. ✖ 54 मिनट

Question Number : 109 Question Id : 54592723137 Question Type : MCQ Option Shuffling : Yes

Correct Marks : 1 Wrong Marks : 0.25

Eight farmers take 4 hours to plough 12 acres of land. What is the area of land that will be ploughed; if 12 farmers work for 14 hours at the, same efficiency as the previous case?

Options :

1. ✖ 52 acres
2. ✔ 63 acres
3. ✖ 58 acres
4. ✖ 65 acres

Question Number : 109 Question Id : 54592723137 Question Type : MCQ Option Shuffling : Yes

Correct Marks : 1 Wrong Marks : 0.25

एकड़ भूमि की जुताई के लिए आठ किसानों को 4 घंटे लगते हैं। अगर 12 किसान 14 घंटे काम करते हैं, तो भूमि का क्षेत्रफल ज्ञात कीजिये जबकि किसानों की काम करने की क्षमता पूर्ववत है?

Options :

1. ✖ 52 एकड़
2. ✔ 63 एकड़
3. ✖ 58 एकड़

4. ✖ 65 एकड़

Question Number : 110 Question Id : 54592723138 Question Type : MCQ Option Shuffling : Yes
Correct Marks : 1 Wrong Marks : 0.25

P can do a work in 26 days. If R is 30 percent more efficient than P, R will complete the work in (days):

Note: For this question, discrepancy is found in question/answer. So, this question is ignored for all candidates.

Options :

1. 18.2
2. 20
3. 26/7
4. 30

Question Number : 110 Question Id : 54592723138 Question Type : MCQ Option Shuffling : Yes
Correct Marks : 1 Wrong Marks : 0.25

P एक काम को 6 दिनों में कर सकता है। यदि R, P से 30% अधिक सक्षम है, तो R काम को कितने दिनों में पूरा करेगा।

Note: For this question, discrepancy is found in question/answer. So, this question is ignored for all candidates.

Options :

1. 18.2
2. 20
3. 26/7
4. 30

Question Number : 111 Question Id : 54592723139 Question Type : MCQ Option Shuffling : Yes
Correct Marks : 1 Wrong Marks : 0.25

A work can be finished in 12 days by 28 workers. If the work were to be finished in 8 days, how many additional workers would be required?

Options :

1. ✖ 16

2. ✓ 14

3. ✗ 18

4. ✗ 8

Question Number : 111 Question Id : 54592723139 Question Type : MCQ Option Shuffling : Yes

Correct Marks : 1 Wrong Marks : 0.25

एक कार्य को 28 श्रमिकों द्वारा 12 दिन में समाप्त किया जा सकता है। यदि कार्य को 8 दिनों में ही समाप्त किया जाना था, तो कितने अतिरिक्त श्रमिकों की आवश्यकता होगी?

Options :

1. ✗ 16

2. ✓ 14

3. ✗ 18

4. ✗ 8

Question Number : 112 Question Id : 54592723140 Question Type : MCQ Option Shuffling : Yes

Correct Marks : 1 Wrong Marks : 0.25

A conical vessel whose internal radius is 12 cm and height 50 cm is full of liquid. The contents are emptied into a cylindrical vessel with radius (internal) 10 cm. The height to which the liquid rises in the cylindrical vessel is?

Options :

1. ✗ 25 cm

2. ✗ 20 cm

3. ✓ 24cm

4. ✗ 22 cm

Question Number : 112 Question Id : 54592723140 Question Type : MCQ Option Shuffling : Yes

Correct Marks : 1 Wrong Marks : 0.25

12 से.मी. आंतरिक त्रिज्या और 50 से.मी. उंचाई वाला एक शंक्वाकार बर्तन तरल पदार्थ से पूरा भरा है। इस पदार्थ को 10 से.मी. आंतरिक त्रिज्या वाले बेलनाकार बर्तन में खाली कर दिया जाता है। बेलनाकार बर्तन में तरल पदार्थ किस उंचाई तक आएगा।

Options :

1. ✖ 25 से.मी.
2. ✖ 20 से.मी.
3. ✔ 24 से.मी.
4. ✖ 22 से.मी.

Question Number : 113 Question Id : 54592723141 Question Type : MCQ Option Shuffling : Yes
Correct Marks : 1 Wrong Marks : 0.25

In what ratio are the volumes of a cylinder, a cone and a sphere if each has the same diameter and Same height?

Options :

1. ✖ 1 : 3 : 2
2. ✖ 2 : 3 : 1
3. ✔ 3 : 1 : 2
4. ✖ 3 : 2 : 1

Question Number : 113 Question Id : 54592723141 Question Type : MCQ Option Shuffling : Yes
Correct Marks : 1 Wrong Marks : 0.25

यदि एक बेलन, एक शंकु और एक गोला में प्रत्येक का व्यास समान है और ऊंचाई समान है तो उनका आयतन किस अनुपात में होगा?

Options :

1. ✖ 1 : 3 : 2
2. ✖ 2 : 3 : 1
3. ✔ 3 : 1 : 2

4. ✖ 3 : 2 : 1

Question Number : 114 Question Id : 54592723142 Question Type : MCQ Option Shuffling : Yes

Correct Marks : 1 Wrong Marks : 0.25

A rectangle has its length 10 cm more than twice the side of a square and breadth 12 cm less than the side of the square. If the rectangle has the same perimeter, as that of the square, find the area of the square.

Options :

1. ✖ 8 cm^2

2. ✖ 10 cm^2

3. ✖ 6 cm^2

4. ✔ 4 cm^2

Question Number : 114 Question Id : 54592723142 Question Type : MCQ Option Shuffling : Yes

Correct Marks : 1 Wrong Marks : 0.25

एक आयत की लंबाई, एक वर्ग भुजा की लंबाई के दुगुने से 10 सेंटीमीटर अधिक है और चौड़ाई वर्ग की भुजा की लंबाई से 12 सेमी कम है। यदि आयत में परिधि वर्ग की परिधि के बराबर है, तो वर्ग का क्षेत्रफल ज्ञात कीजिए।

Options :

1. ✖ 8 cm^2

2. ✖ 10 cm^2

3. ✖ 6 cm^2

4. ✔ 4 cm^2

Question Number : 115 Question Id : 54592723143 Question Type : MCQ Option Shuffling : Yes
Correct Marks : 1 Wrong Marks : 0.25

Study the following Table carefully to answer the questions.
The following Table represents the number (in thousands) of Laptops produced by three different companies in the different years.

year	Company A	Company B	Company C
2012	40	45	25
2013	50	50	35
2014	52	55	40
2015	90	60	55
2016	64	65	60
2017	70	70	80

What was the approximate average number of Laptops manufactured by company A over all the years together?

- Options :
- 1. ✖ 56000
 - 2. ✖ 40000
 - 3. ✖ 50000
 - 4. ✔ 61000

Question Number : 115 Question Id : 54592723143 Question Type : MCQ Option Shuffling : Yes
Correct Marks : 1 Wrong Marks : 0.25

निम्नलिखित प्रश्नों का उत्तर देने के लिए तालिका का ध्यानपूर्वक अध्ययन करें।

तालिका विभिन्न वर्षों में तीन अलग-अलग कंपनियों द्वारा उत्पादित लैपटॉप की संख्या (हजार में) को दर्शाता है।

वर्ष	कंपनी A	कंपनी B	कंपनी C
2012	40	45	25
2013	50	50	35
2014	52	55	40
2015	90	60	55
2016	64	65	60
2017	70	70	80

सभी वर्षों में कंपनी A द्वारा निर्मित लैपटॉप की लग-भग औसत संख्या क्या थी?

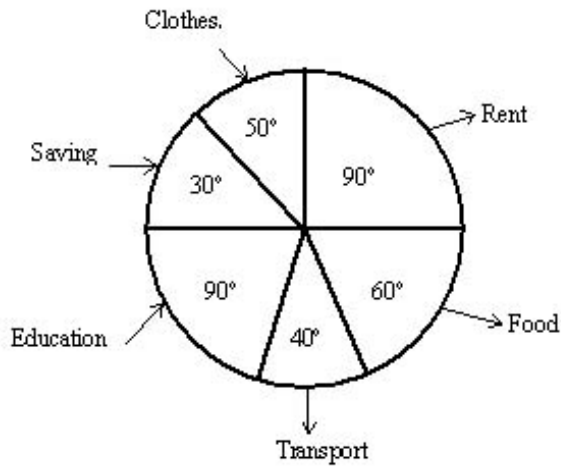
Options :

1. ✖ 56000
2. ✖ 40000
3. ✖ 50000
4. ✔ 61000

Question Number : 116 Question Id : 54592723144 Question Type : MCQ Option Shuffling : Yes

Correct Marks : 1 Wrong Marks : 0.25

The following Pie-chart shows the distribution of expenses (in degrees) of a family during 2019 Total Income of the family in 2019 is Rs. 1080.



How much they spend (in Rs.) on clothes?

Options :

1. ✓ 150

2. ✗ 200

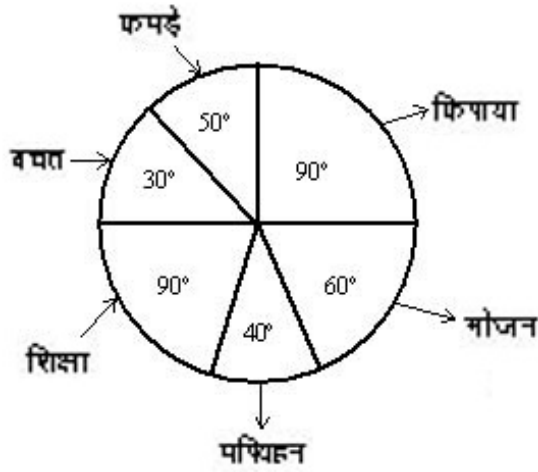
3. ✗ 180

4. ✗ 240

Question Number : 116 Question Id : 54592723144 Question Type : MCQ Option Shuffling : Yes

Correct Marks : 1 Wrong Marks : 0.25

नीचे दिए गए पाइ चार्ट में वर्ष 2019 के दौरान एक परिवार के व्यय का विवरण (डिग्री. में) को दर्शाया गया है। वर्ष 2019 में परिवार की कुल आय 1080 रुपये है।



कपड़ों पर किया गया खर्च ज्ञात करें?

Options :

1. ✓ 150
2. ✗ 200
3. ✗ 180
4. ✗ 240

Question Number : 117 Question Id : 54592723145 Question Type : MCQ Option Shuffling : Yes

Correct Marks : 1 Wrong Marks : 0.25

Study the following table carefully to answer these questions:-

Populations (in thousands) of Six States over the years						
Years	STATE					
	A	B	C	D	E	F
2012	80	110	185	140	110	125
2013	85	125	189	150	120	140
2014	92	140	193	160	140	160
2015	119	150	210	185	135	175
2016	125	170	215	230	145	190
2017	130	190	226	240	160	200

What was the average population of all the states together in 2017?

Options :

1. ✓ 1,91,000
2. ✗ 1,82,000
3. ✗ 1,86,200
4. ✗ 1,75,500

Question Number : 117 Question Id : 54592723145 Question Type : MCQ Option Shuffling : Yes
Correct Marks : 1 Wrong Marks : 0.25

निम्नलिखित प्रश्नों का उत्तर देने के लिए सावधानीपूर्वक निम्नलिखित तालिका का अध्ययन करें-

दिए गए वर्षों में 6 राज्यों की जनसंख्या (हजार में)						
वर्ष	राज्य					
	A	B	C	D	E	F
2012	80	110	185	140	110	125
2013	85	125	189	150	120	140
2014	92	140	193	160	140	160
2015	119	150	210	185	135	175
2016	125	170	215	230	145	190
2017	130	190	226	240	160	200

2017 में सभी राज्यों की औसत जनसंख्या क्या थी?

Options :

1. ✓ 1,91,000
2. ✗ 1,82,000
3. ✗ 1,86,200
4. ✗ 1,75,500

Study the following graph and Table carefully to answer the questions.

Bar graph represents the Percentage of employees working in various departments of an organization and Table represents the ratio of Men to Women.

Total Number of Employees = 9000



Dept. = Department

Respective Ratio of Men to Women in Each Department

Department	Men	Women
Production	1	2
HR	5	8
IT	3	5
Marketing	2	7
Accounts	4	5

What is the number of men working in the Marketing department?

Options :

1. ✖ 460

2. ✖ 450

3. ✔ 340

4. ✖ 240

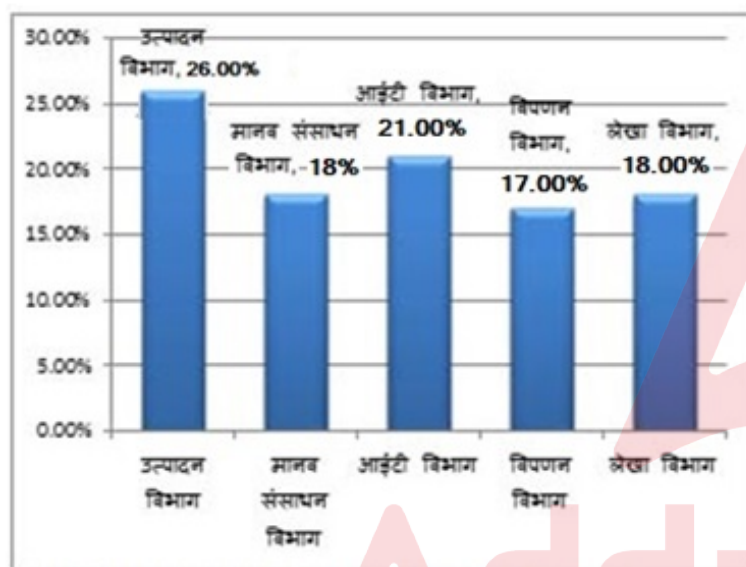
Question Number : 118 Question Id : 54592723146 Question Type : MCQ Option Shuffling : Yes
Correct Marks : 1 Wrong Marks : 0.25



निम्नलिखित प्रश्नों का उत्तर देने के लिए निम्नलिखित ग्राफ और तालिका का ध्यानपूर्वक अध्ययन करें।

बार ग्राफ विभिन्न विभागों में काम करने वाले कर्मचारियों के प्रतिशत को दर्शाता है और तालिका पुरुषों तथा महिलाओं के क्रमशः अनुपात को दर्शाता है।

कर्मचारियों की कुल संख्या = 9000



प्रत्येक विभाग में पुरुषों तथा महिलाओं का क्रमशः अनुपात

विभाग	पुरुष	महिला
उत्पादन	1	2
मानव संसाधन	5	8
आईटी	3	5
विपणन	2	7
लेखा	4	5

विपणन विभाग में काम करने वाले पुरुषों की संख्या कितनी है?

Options :

1. ✖ 460
2. ✖ 450
3. ✔ 340
4. ✖ 240

Question Number : 119 Question Id : 54592723147 Question Type : MCQ Option Shuffling : Yes
Correct Marks : 1 Wrong Marks : 0.25

Following line-graph shows the percentage profit earned by two companies A and B during the period of 2012 to 2018.



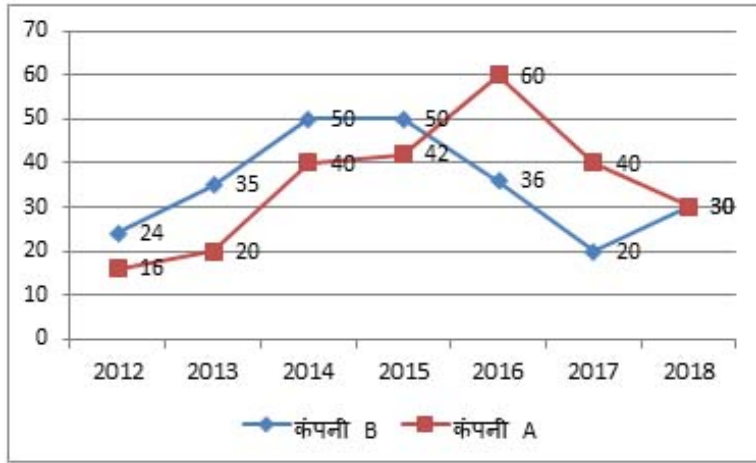
If the expenditure of Company A in 2013 is the same as the income of B in 2015, then what would be the ratio of the expenditure of B in 2015 to the income of A in 2013?

Options :

1. ✔ 5 : 9
2. ✖ 4 : 9
3. ✖ 7 : 15
4. ✖ 8 : 15

Question Number : 119 Question Id : 54592723147 Question Type : MCQ Option Shuffling : Yes
Correct Marks : 1 Wrong Marks : 0.25

निम्नलिखित लाइन-ग्राफ 2012 से 2018 की अवधि के दौरान दो कंपनियों A और B द्वारा अर्जित प्रतिशत लाभ को दर्शाता है।



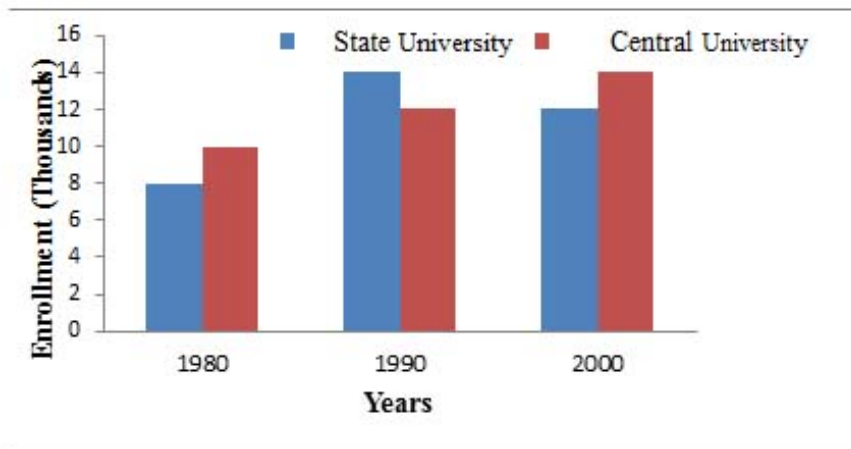
यदि 2013 में कंपनी A का व्यय, 2015 में B की आय के समान है, तो 2015 में कंपनी B के खर्च तथा 2013 में A की आय का अनुपात क्या होगा?

Options :

1. ✓ 5 : 9
2. ✗ 4 : 9
3. ✗ 7 : 15
4. ✗ 8 : 15

Question Number : 120 Question Id : 54592723148 Question Type : MCQ Option Shuffling : Yes
Correct Marks : 1 Wrong Marks : 0.25

Study the following bar graph carefully and answer the questions.



Total enrollments in both State University and Central University during the year 1980, 1990 and 2000 is.

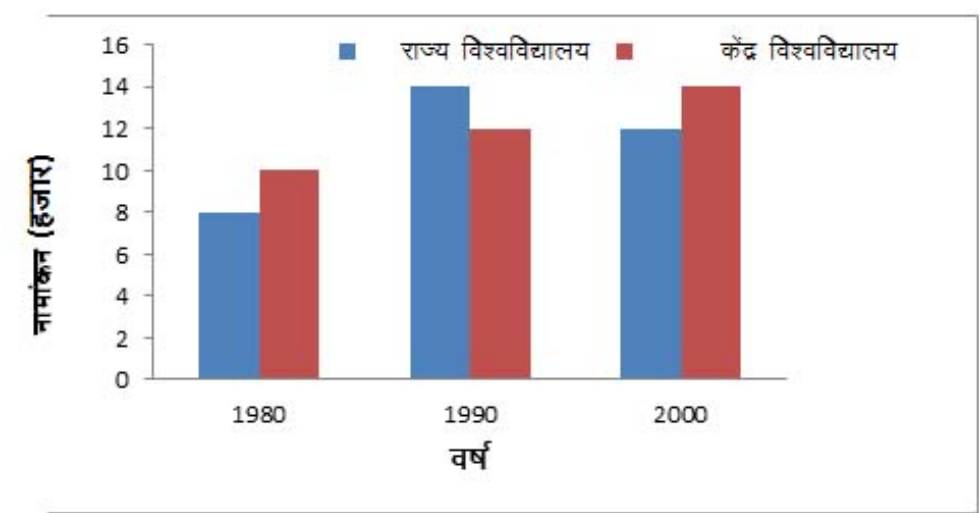
Options :

1. ✖ 80000
2. ✖ 66000
3. ✔ 70000
4. ✖ 76000

Question Number : 120 Question Id : 54592723148 Question Type : MCQ Option Shuffling : Yes

Correct Marks : 1 Wrong Marks : 0.25

निम्नलिखित बार ग्राफ को ध्यान से पढ़िये और प्रश्नों के उत्तर दीजिये।



वर्ष 1980, 1990 और 2000 में राज्य और केंद्र विश्वविद्यालय दोनों में कुल कितने नामांकन किये गये थे?

Options :

- 1. ✖ 80000
- 2. ✖ 66000
- 3. ✔ 70000
- 4. ✖ 76000

General English1

Group Number :	7
Group Id :	5459271147
Group Maximum Duration :	0
Group Minimum Duration :	0
Show Attended Group? :	No
Edit Attended Group? :	No
Break time:	0
Group Marks:	20
Is this Group for Examiner?:	No
Revisit allowed for group Instructions? :	Yes
Maximum Instruction Time:	0
Minimum Instruction Time:	0

General English1

Section Id :	5459271147
Section Number :	1
Section type :	Online
Mandatory or Optional:	Mandatory
Number of Questions:	20
Number of Questions to be attempted:	20
Section Marks:	20

Sub-Section Number:	1
Sub-Section Id:	5459271375
Question Shuffling Allowed :	Yes

Question Number : 121 Question Id : 54592723149 Question Type : MCQ Option Shuffling : Yes
Correct Marks : 1 Wrong Marks : 0.25

Identify the segment in the sentence which contains the grammatical error from the given options.

The euro was adopt on January 1, 1999 and the first coins began to circulate three years later.

Options :

1. ✓ The euro was adopt
2. ✗ on January 1, 1999
3. ✗ and the first coins began
4. ✗ to circulate three years later

Question Number : 121 Question Id : 54592723149 Question Type : MCQ Option Shuffling : Yes
Correct Marks : 1 Wrong Marks : 0.25

Identify the segment in the sentence which contains the grammatical error from the given options.

The euro was adopt on January 1, 1999 and the first coins began to circulate three years later.

Options :

1. ✓ The euro was adopt
2. ✗ on January 1, 1999
3. ✗ and the first coins began
4. ✗ to circulate three years later

Question Number : 122 Question Id : 54592723150 Question Type : MCQ Option Shuffling : Yes

Correct Marks : 1 Wrong Marks : 0.25

Identify the segment in the sentence which contains the grammatical error from the given options.

In 60 B.C. Marcus Licinius Crassus was one of the most powerful man in Rome.

Options :

1. ✗ In 60 B.C.
2. ✗ Marcus Licinius Crassus
3. ✗ was one of the most
4. ✓ powerful man in Rome

Question Number : 122 Question Id : 54592723150 Question Type : MCQ Option Shuffling : Yes

Correct Marks : 1 Wrong Marks : 0.25

Identify the segment in the sentence which contains the grammatical error from the given options.

In 60 B.C. Marcus Licinius Crassus was one of the most powerful man in Rome.

Options :

1. ✗ In 60 B.C.
2. ✗ Marcus Licinius Crassus

- 3. ✖ was one of the most
- 4. ✔ powerful man in Rome

Question Number : 123 Question Id : 54592723151 Question Type : MCQ Option Shuffling : Yes
Correct Marks : 1 Wrong Marks : 0.25

Identify the segment in the sentence which contains the grammatical error from the given options.

Silicon Valley's optimism and the practical dreamers who keep it gone have long fascinated me.

Options :

- 1. ✖ Silicon Valley's optimism
- 2. ✖ and the practical dreamers
- 3. ✔ who keep it gone
- 4. ✖ have long fascinated me

Question Number : 123 Question Id : 54592723151 Question Type : MCQ Option Shuffling : Yes
Correct Marks : 1 Wrong Marks : 0.25

Identify the segment in the sentence which contains the grammatical error from the given options.

Silicon Valley's optimism and the practical dreamers who keep it gone have long fascinated me.

Options :

- 1. ✖ Silicon Valley's optimism
- 2. ✖ and the practical dreamers
- 3. ✔ who keep it gone
- 4. ✖ have long fascinated me

Question Number : 124 Question Id : 54592723152 Question Type : MCQ Option Shuffling : Yes
Correct Marks : 1 Wrong Marks : 0.25

Identify the segment in the sentence which contains the grammatical error from the given options.

Sometimes in the pursuit of making things better and efficient, you may be hurting people along the way.

Options :

1. ✖ Sometimes in the pursuit of
2. ✖ making things better and efficient
3. ✔ you may be hurting
4. ✖ people along the way

Question Number : 124 Question Id : 54592723152 Question Type : MCQ Option Shuffling : Yes
Correct Marks : 1 Wrong Marks : 0.25

Identify the segment in the sentence which contains the grammatical error from the given options.

Sometimes in the pursuit of making things better and efficient, you may be hurting people along the way.

Options :

1. ✖ Sometimes in the pursuit of
2. ✖ making things better and efficient
3. ✔ you may be hurting
4. ✖ people along the way

Question Number : 125 Question Id : 54592723153 Question Type : MCQ Option Shuffling : Yes
Correct Marks : 1 Wrong Marks : 0.25

Identify the segment in the sentence which contains the grammatical error from the given options.

With the advent of artificial intelligence—computers learning to think like humans—data has become most important resource.

Options :

1. ✖ With the advent of artificial intelligence
2. ✖ computers learning to think like humans
3. ✖ data has become
4. ✔ most important resource.

Question Number : 125 Question Id : 54592723153 Question Type : MCQ Option Shuffling : Yes
Correct Marks : 1 Wrong Marks : 0.25

Identify the segment in the sentence which contains the grammatical error from the given options.

With the advent of artificial intelligence—computers learning to think like humans—data has become most important resource.

Options :

1. ✖ With the advent of artificial intelligence
2. ✖ computers learning to think like humans
3. ✖ data has become
4. ✔ most important resource.

Question Number : 126 Question Id : 54592723154 Question Type : MCQ Option Shuffling : Yes
Correct Marks : 1 Wrong Marks : 0.25

Select the most appropriate option to substitute the underlined segment in the given sentence. If there is no need to substitute it, select option No substitution required.

Journalists are losing jobs so fast it's time they go into entrepreneur mode.

Options :

1. ✓ they went into
2. ✗ go into
3. ✗ their going into
4. ✗ No substitution required

Question Number : 126 Question Id : 54592723154 Question Type : MCQ Option Shuffling : Yes

Correct Marks : 1 Wrong Marks : 0.25

Select the most appropriate option to substitute the underlined segment in the given sentence. If there is no need to substitute it, select option No substitution required.

Journalists are losing jobs so fast it's time they go into entrepreneur mode.

Options :

1. ✓ they went into
2. ✗ go into
3. ✗ their going into
4. ✗ No substitution required

Question Number : 127 Question Id : 54592723155 Question Type : MCQ Option Shuffling : Yes

Correct Marks : 1 Wrong Marks : 0.25

Select the most appropriate option to substitute the underlined segment in the given sentence. If there is no need to substitute it, select option No substitution required.

Temperature rise and climate change effects not just few countries but the entire globe, on which all species live.

Options :

1. ✖ effect just few country
2. ✔ affect not just some countries
3. ✖ affect few country
4. ✖ No substitution required

Question Number : 127 Question Id : 54592723155 Question Type : MCQ Option Shuffling : Yes

Correct Marks : 1 Wrong Marks : 0.25

Select the most appropriate option to substitute the underlined segment in the given sentence. If there is no need to substitute it, select option No substitution required.

Temperature rise and climate change effects not just few countries but the entire globe, on which all species live.

Options :

1. ✖ effect just few country
2. ✔ affect not just some countries
3. ✖ affect few country
4. ✖ No substitution required

Question Number : 128 Question Id : 54592723156 Question Type : MCQ Option Shuffling : Yes

Correct Marks : 1 Wrong Marks : 0.25

Select the most appropriate option to substitute the underlined segment in the given sentence. If there is no need to substitute it, select option No substitution required.

Over the years, it has become increasingly clear that cocoa and chocolates are not just good to taste, and are good to cognition as well.

Options :

1. ✖ and are good for
2. ✖ but are good to
3. ✔ but are good for
4. ✖ No substitution required

Question Number : 128 Question Id : 54592723156 Question Type : MCQ Option Shuffling : Yes

Correct Marks : 1 Wrong Marks : 0.25

Select the most appropriate option to substitute the underlined segment in the given sentence. If there is no need to substitute it, select option No substitution required.

Over the years, it has become increasingly clear that cocoa and chocolates are not just good to taste, and are good to cognition as well.

Options :

1. ✖ and are good for
2. ✖ but are good to
3. ✔ but are good for
4. ✖ No substitution required

Question Number : 129 Question Id : 54592723157 Question Type : MCQ Option Shuffling : Yes

Correct Marks : 1 Wrong Marks : 0.25

Select the most appropriate option to substitute the underlined segment in the given sentence. If there is no need to substitute it, select option No substitution required.

Unlike normal cells in our body, cancer cells keep on dividing and multiplying without control, forming lumps called tumors.

Options :

1. ✖ keeps on divide and multiply
2. ✖ keeping on dividing and multiplying
3. ✖ keep on divide and multiply
4. ✔ No substitution required

Question Number : 129 Question Id : 54592723157 Question Type : MCQ Option Shuffling : Yes

Correct Marks : 1 Wrong Marks : 0.25

Select the most appropriate option to substitute the underlined segment in the given sentence. If there is no need to substitute it, select option No substitution required.

Unlike normal cells in our body, cancer cells keep on dividing and multiplying without control, forming lumps called tumors.

Options :

1. ✖ keeps on divide and multiply
2. ✖ keeping on dividing and multiplying
3. ✖ keep on divide and multiply
4. ✔ No substitution required

Question Number : 130 Question Id : 54592723158 Question Type : MCQ Option Shuffling : Yes

Correct Marks : 1 Wrong Marks : 0.25

Select the most appropriate option to substitute the underlined segment in the given sentence. If there is no need to substitute it, select option No substitution required.

The UN is calling on people everywhere to take concrete steps to beat plastic pollution at its own life.

Options :

1. ✓ in their own lives
2. ✗ at their own lives
3. ✗ on its own life
4. ✗ No substitution required

Question Number : 130 Question Id : 54592723158 Question Type : MCQ Option Shuffling : Yes

Correct Marks : 1 Wrong Marks : 0.25

Select the most appropriate option to substitute the underlined segment in the given sentence. If there is no need to substitute it, select option No substitution required.

The UN is calling on people everywhere to take concrete steps to beat plastic pollution at its own life.

Options :

1. ✓ in their own lives
2. ✗ at their own lives
3. ✗ on its own life
4. ✗ No substitution required

Question Number : 131 Question Id : 54592723159 Question Type : MCQ Option Shuffling : Yes

Correct Marks : 1 Wrong Marks : 0.25

Select the most appropriate word to fill in the blank.

Europe _____ from the 2003 heat wave, which killed more than 70,000 across the continent.

Options :

1. ✓ has learned
2. ✗ have learned
3. ✗ learns
4. ✗ learn

Question Number : 131 Question Id : 54592723159 Question Type : MCQ Option Shuffling : Yes
Correct Marks : 1 Wrong Marks : 0.25

Select the most appropriate word to fill in the blank.

Europe _____ from the 2003 heat wave, which killed more than 70,000 across the continent.

Options :

1. ✓ has learned
2. ✗ have learned
3. ✗ learns
4. ✗ learn

Question Number : 132 Question Id : 54592723160 Question Type : MCQ Option Shuffling : Yes
Correct Marks : 1 Wrong Marks : 0.25

Select the most appropriate word to fill in the blank.

Plastic cutlery is everywhere, and most of _____ can be used only once.

Options :

1. ✗ them

2. ✓ it

3. ✗ one

4. ✗ theirs

Question Number : 132 Question Id : 54592723160 Question Type : MCQ Option Shuffling : Yes
Correct Marks : 1 Wrong Marks : 0.25

Select the most appropriate word to fill in the blank.

Plastic cutlery is everywhere, and most of _____ can be used only once.

Options :

1. ✗ them

2. ✓ it

3. ✗ one

4. ✗ theirs

Question Number : 133 Question Id : 54592723161 Question Type : MCQ Option Shuffling : Yes
Correct Marks : 1 Wrong Marks : 0.25

Select the most appropriate word to fill in the blank.

Plastic cutlery is everywhere, and most of _____ can be used only once.

Note: For this question, discrepancy is found in question/answer. So, this question is ignored for all candidates.

Options :

1. them

2. it

3. one

4. theirs

Question Number : 133 Question Id : 54592723161 Question Type : MCQ Option Shuffling : Yes

Correct Marks : 1 Wrong Marks : 0.25

Select the most appropriate word to fill in the blank.

Plastic cutlery is everywhere, and most of _____ can be used only once.

Note: For this question, discrepancy is found in question/answer. So, this question is ignored for all candidates.

Options :

1. them
2. it
3. one
4. theirs

Question Number : 134 Question Id : 54592723162 Question Type : MCQ Option Shuffling : Yes

Correct Marks : 1 Wrong Marks : 0.25

Select the most appropriate word to fill in the blank.

Making plastic utensils bright and poppy _____ to also making them very popular, historians say.

Options :

1. ✖ contribute
2. ✖ contributes
3. ✔ contributed
4. ✖ contributing

Question Number : 134 Question Id : 54592723162 Question Type : MCQ Option Shuffling : Yes

Correct Marks : 1 Wrong Marks : 0.25

Select the most appropriate word to fill in the blank.

Making plastic utensils bright and poppy _____ to also making them very popular, historians say.

Options :

1. ✖ contribute
2. ✖ contributes
3. ✔ contributed
4. ✖ contributing

Question Number : 135 Question Id : 54592723163 Question Type : MCQ Option Shuffling : Yes
Correct Marks : 1 Wrong Marks : 0.25

Select the most appropriate word to fill in the blank.

Books are essential items to pack _____summer travels, right next to the sunscreen and shades.

Options :

1. ✖ with
2. ✖ to
3. ✖ at
4. ✔ for

Question Number : 135 Question Id : 54592723163 Question Type : MCQ Option Shuffling : Yes
Correct Marks : 1 Wrong Marks : 0.25

Select the most appropriate word to fill in the blank.

Books are essential items to pack _____summer travels, right next to the sunscreen and shades.

Options :

1. ✖ with
2. ✖ to
3. ✖ at
4. ✔ for

Question Number : 136 Question Id : 54592723164 Question Type : MCQ Option Shuffling : Yes
Correct Marks : 1 Wrong Marks : 0.25

Select the most appropriate word to fill in the blank.

There are more than 20 species of coffin fish, found across the world _____ depths of up to 8,200 feet.

Options :

1. ✔ at
2. ✖ in
3. ✖ on
4. ✖ by

Question Number : 136 Question Id : 54592723164 Question Type : MCQ Option Shuffling : Yes
Correct Marks : 1 Wrong Marks : 0.25

Select the most appropriate word to fill in the blank.

There are more than 20 species of coffin fish, found across the world _____ depths of up to 8,200 feet.

Options :

1. ✔ at
2. ✖ in
3. ✖ on
4. ✖ by

Question Number : 137 Question Id : 54592723165 Question Type : MCQ Option Shuffling : Yes
Correct Marks : 1 Wrong Marks : 0.25

Select the most appropriate word to fill in the blank.

Officials in Barcelona, one of the world's busiest cruise ports, _____ promised tighter controls on mass tourism.

Options :

1. ✖ has
2. ✔ have
3. ✖ having
4. ✖ haven't

Question Number : 137 Question Id : 54592723165 Question Type : MCQ Option Shuffling : Yes
Correct Marks : 1 Wrong Marks : 0.25

Select the most appropriate word to fill in the blank.

Officials in Barcelona, one of the world's busiest cruise ports, _____ promised tighter controls on mass tourism.

Options :

1. ✖ has
2. ✔ have
3. ✖ having
4. ✖ haven't

Question Number : 138 Question Id : 54592723166 Question Type : MCQ Option Shuffling : Yes
Correct Marks : 1 Wrong Marks : 0.25

Select the most appropriate word to fill in the blank.

When you arrive at a place, you _____ part of that place.

Options :

1. ✖ became
2. ✖ becomes
3. ✔ become
4. ✖ becoming

Question Number : 138 Question Id : 54592723166 Question Type : MCQ Option Shuffling : Yes
Correct Marks : 1 Wrong Marks : 0.25

Select the most appropriate word to fill in the blank.

When you arrive at a place, you _____ part of that place.

Options :

1. ✖ became
2. ✖ becomes
3. ✔ become
4. ✖ becoming

Question Number : 139 Question Id : 54592723167 Question Type : MCQ Option Shuffling : Yes
Correct Marks : 1 Wrong Marks : 0.25

Rearrange the following sentences in their correct order to form a meaningful paragraph.

- A: And yet, the coaching industry is rapidly growing.
- B: The rate of suicides in Kota where many students converge to prepare for entrance exams, remains high.
- C: In May, a deadly fire at a coaching center in Surat snuffed out 22 young lives.
- D: Around 12 percent of a family's expenses go towards private coaching, across rich and poor families alike.

Options :

1. ✔ CBAD

2. ✖ CDAB

3. ✖ CADB

4. ✖ CBDA

Question Number : 139 Question Id : 54592723167 Question Type : MCQ Option Shuffling : Yes
Correct Marks : 1 Wrong Marks : 0.25

Rearrange the following sentences in their correct order to form a meaningful paragraph.

A: And yet, the coaching industry is rapidly growing.

B: The rate of suicides in Kota where many students converge to prepare for entrance exams, remains high.

C: In May, a deadly fire at a coaching center in Surat snuffed out 22 young lives.

D: Around 12 percent of a family's expenses go towards private coaching, across rich and poor families alike.

Options :

1. ✔ CBAD

2. ✖ CDAB

3. ✖ CADB

4. ✖ CBDA

Question Number : 140 Question Id : 54592723168 Question Type : MCQ Option Shuffling : Yes
Correct Marks : 1 Wrong Marks : 0.25

A sentence has four parts, rearrange the given parts so as to form a meaningful sentence.

A: When Paul became sick one recent winter and developed a really bad cough

B: introduced him to the benefits of raw honey.

C: he visited a local store where the owner

D: that neither medicine, home remedies or a trip to the doctor could cure,

Options :

1. ✖ ADBC

2. ✔ ADCB

3. ✖ ACBD

4. ✖ ACDB

Question Number : 140 Question Id : 54592723168 Question Type : MCQ Option Shuffling : Yes
Correct Marks : 1 Wrong Marks : 0.25

A sentence has four parts, rearrange the given parts so as to form a meaningful sentence.

A: When Paul became sick one recent winter and developed a really bad cough

B: introduced him to the benefits of raw honey.

C: he visited a local store where the owner

D: that neither medicine, home remedies or a trip to the doctor could cure,

Options :

1. ✖ ADBC

2. ✓ ADCB

3. ✖ ACBD

4. ✖ ACDB

General English2

Group Number :	8
Group Id :	5459271148
Group Maximum Duration :	0
Group Minimum Duration :	0
Show Attended Group? :	No
Edit Attended Group? :	No
Break time:	0
Group Marks:	20
Is this Group for Examiner?:	No
Revisit allowed for group Instructions? :	Yes
Maximum Instruction Time:	0
Minimum Instruction Time:	0

General English2

Section Id :	5459271148
Section Number :	1
Section type :	Online
Mandatory or Optional:	Mandatory
Number of Questions:	16
Number of Questions to be attempted:	16
Section Marks:	20

Sub-Section Number:	1
Sub-Section Id:	5459271376
Question Shuffling Allowed :	Yes

Question Number : 141 Question Id : 54592723169 Question Type : MCQ Option Shuffling : Yes
Correct Marks : 1 Wrong Marks : 0.25

Rearrange the following sentences in their correct order to form a meaningful paragraph.

A: Even if you manage to grow a plant successfully, growing food is another ballgame altogether.

B: They have varied water needs, soil requirements and temperature and sunlight preferences.

C: Anyone who has ever bought a plant from a nursery, watered it every day and watched in dismay as it failed to thrive, knows that gardening isn't easy.

D: Vegetables such as bitter gourd and tomato grow almost like weeds, but others are trickier.

Options :

1. ✖ DBAC

2. ✖ DACB

3. ✔ CADB

4. ✖ CBAD

Question Number : 141 Question Id : 54592723169 Question Type : MCQ Option Shuffling : Yes

Correct Marks : 1 Wrong Marks : 0.25

Rearrange the following sentences in their correct order to form a meaningful paragraph.

A: Even if you manage to grow a plant successfully, growing food is another ballgame altogether.

B: They have varied water needs, soil requirements and temperature and sunlight preferences.

C: Anyone who has ever bought a plant from a nursery, watered it every day and watched in dismay as it failed to thrive, knows that gardening isn't easy.

D: Vegetables such as bitter gourd and tomato grow almost like weeds, but others are trickier.

Options :

1. ✖ DBAC
2. ✖ DACB
3. ✔ CADB
4. ✖ CBAD

Question Number : 142 Question Id : 54592723170 Question Type : MCQ Option Shuffling : Yes
Correct Marks : 1 Wrong Marks : 0.25

Select the synonym of the given word.

Amplify

Options :

1. ✔ Increase
2. ✖ Destroy
3. ✖ Improve

4. ✖ Descend

Question Number : 142 Question Id : 54592723170 Question Type : MCQ Option Shuffling : Yes
Correct Marks : 1 Wrong Marks : 0.25

Select the synonym of the given word.

Amplify

Options :

1. ✔ Increase
2. ✖ Destroy
3. ✖ Improve
4. ✖ Descend

Question Number : 143 Question Id : 54592723171 Question Type : MCQ Option Shuffling : Yes
Correct Marks : 1 Wrong Marks : 0.25

Select the antonym of the given word.

Condemn

Options :

1. ✖ Interrupt
2. ✔ Praise
3. ✖ Assign
4. ✖ Intensify

Question Number : 143 Question Id : 54592723171 Question Type : MCQ Option Shuffling : Yes
Correct Marks : 1 Wrong Marks : 0.25

Select the antonym of the given word.

Condemn

Options :

1. ✖ Interrupt
2. ✔ Praise
3. ✖ Assign
4. ✖ Intensify

Question Number : 144 Question Id : 54592723172 Question Type : MCQ Option Shuffling : Yes
Correct Marks : 1 Wrong Marks : 0.25

Select the synonym of the given word.

Accumulate

Options :

1. ✖ Improve
2. ✖ Deepen
3. ✔ Gather
4. ✖ Scatter

Question Number : 144 Question Id : 54592723172 Question Type : MCQ Option Shuffling : Yes
Correct Marks : 1 Wrong Marks : 0.25

Select the synonym of the given word.

Accumulate

Options :

1. ✖ Improve
2. ✖ Deepen
3. ✔ Gather
4. ✖ Scatter

Question Number : 145 Question Id : 54592723173 Question Type : MCQ Option Shuffling : Yes
Correct Marks : 1 Wrong Marks : 0.25

Select the antonym of the given word.

Atrocious

Options :

1. ✓ Admirable
2. ✗ Driven
3. ✗ Uneven
4. ✗ Hidden

Question Number : 145 Question Id : 54592723173 Question Type : MCQ Option Shuffling : Yes
Correct Marks : 1 Wrong Marks : 0.25

Select the antonym of the given word.

Atrocious

Options :

1. ✓ Admirable
2. ✗ Driven
3. ✗ Uneven
4. ✗ Hidden

Question Number : 146 Question Id : 54592723174 Question Type : MCQ Option Shuffling : Yes
Correct Marks : 1 Wrong Marks : 0.25

Select the correct pair of homophones to fill in the blanks.

He might _____ at the office briefly before leaving for the day.

The feet of the throne are modeled after large catlike _____ without claws.

Options :

1. ✖ pause, pause
2. ✔ pause, paws
3. ✖ paws, pause
4. ✖ paws, paws

Question Number : 146 Question Id : 54592723174 Question Type : MCQ Option Shuffling : Yes
Correct Marks : 1 Wrong Marks : 0.25

Select the correct pair of homophones to fill in the blanks.

He might _____ at the office briefly before leaving for the day.

The feet of the throne are modeled after large catlike _____ without claws.

Options :

1. ✖ pause, pause
2. ✔ pause, paws
3. ✖ paws, pause
4. ✖ paws, paws

Question Number : 147 Question Id : 54592723175 Question Type : MCQ Option Shuffling : Yes
Correct Marks : 1 Wrong Marks : 0.25

Select the wrongly spelt word.

Options :

1. ✔ Villian
2. ✖ Heroic
3. ✖ Traffic
4. ✖ Analysis

Question Number : 147 Question Id : 54592723175 Question Type : MCQ Option Shuffling : Yes
Correct Marks : 1 Wrong Marks : 0.25

Select the wrongly spelt word.

Options :

1. ✓ Villian
2. ✗ Heroic
3. ✗ Traffic
4. ✗ Analysis

Question Number : 148 Question Id : 54592723176 Question Type : MCQ Option Shuffling : Yes
Correct Marks : 1 Wrong Marks : 0.25

Select the wrongly spelt word.

Options :

1. ✗ Surgeon
2. ✓ Publicity
3. ✗ Opinion
4. ✗ Relative

Question Number : 148 Question Id : 54592723176 Question Type : MCQ Option Shuffling : Yes
Correct Marks : 1 Wrong Marks : 0.25

Select the wrongly spelt word.

Options :

1. ✗ Surgeon
2. ✓ Publicity
3. ✗ Opinion
4. ✗ Relative

Question Number : 149 Question Id : 54592723177 Question Type : MCQ Option Shuffling : Yes
Correct Marks : 1 Wrong Marks : 0.25

Select the wrongly spelt word.

Options :

1. ✖ Prisoner
2. ✖ Exhibition
3. ✔ Consistency
4. ✖ Interval

Question Number : 149 Question Id : 54592723177 Question Type : MCQ Option Shuffling : Yes
Correct Marks : 1 Wrong Marks : 0.25

Select the wrongly spelt word.

Options :

1. ✖ Prisoner
2. ✖ Exhibition
3. ✔ Consistency
4. ✖ Interval

Question Number : 150 Question Id : 54592723178 Question Type : MCQ Option Shuffling : Yes
Correct Marks : 1 Wrong Marks : 0.25

Select the meaning of the given idiom.

Come rain or shine

Options :

1. ✔ No matter what the weather is.
2. ✖ In a hurried manner
3. ✖ Lacking support
4. ✖ In a confused state

Question Number : 150 Question Id : 54592723178 Question Type : MCQ Option Shuffling : Yes
Correct Marks : 1 Wrong Marks : 0.25

Select the meaning of the given idiom.

Come rain or shine

Options :

1. ✓ No matter what the weather is.
2. ✗ In a hurried manner
3. ✗ Lacking support
4. ✗ In a confused state

Question Number : 151 Question Id : 54592723179 Question Type : MCQ Option Shuffling : Yes

Correct Marks : 1 Wrong Marks : 0.25

Select the meaning of the given idiom.

At the drop of a hat

Options :

1. ✗ Clearly
2. ✓ Immediately
3. ✗ In the end
4. ✗ Lacking in confidence

Question Number : 151 Question Id : 54592723179 Question Type : MCQ Option Shuffling : Yes

Correct Marks : 1 Wrong Marks : 0.25

Select the meaning of the given idiom.

At the drop of a hat

Options :

1. ✗ Clearly
2. ✓ Immediately
3. ✗ In the end
4. ✗ Lacking in confidence

Question Number : 152 Question Id : 54592723180 Question Type : MCQ Option Shuffling : Yes

Correct Marks : 1 Wrong Marks : 0.25

Select the meaning of the given idiom.

A dry run

Options :

1. ✖ Without water
2. ✖ A short walk
3. ✔ A practice session
4. ✖ Without work

Question Number : 152 Question Id : 54592723180 Question Type : MCQ Option Shuffling : Yes
Correct Marks : 1 Wrong Marks : 0.25

Select the meaning of the given idiom.

A dry run

Options :

1. ✖ Without water
2. ✖ A short walk
3. ✔ A practice session
4. ✖ Without work

Question Number : 153 Question Id : 54592723181 Question Type : MCQ Option Shuffling : Yes
Correct Marks : 1 Wrong Marks : 0.25

Select the word which means the same as the group of words given.

A post-mortem examination to discover the cause of death or the extent of disease.

Options :

1. ✔ Autopsy
2. ✖ Clergy

3. ✖ Cemetery

4. ✖ Gentry

Question Number : 153 Question Id : 54592723181 Question Type : MCQ Option Shuffling : Yes
Correct Marks : 1 Wrong Marks : 0.25

Select the word which means the same as the group of words given.

A post-mortem examination to discover the cause of death or the extent of disease.

Options :

1. ✔ Autopsy

2. ✖ Clergy

3. ✖ Cemetery

4. ✖ Gentry

Question Number : 154 Question Id : 54592723182 Question Type : MCQ Option Shuffling : Yes
Correct Marks : 1 Wrong Marks : 0.25

Select the word which means the same as the group of words given.

A wide street in a town or city, typically one lined with trees.

Options :

1. ✖ Enclave

2. ✔ Boulevard

3. ✖ Highway

4. ✖ Artery

Question Number : 154 Question Id : 54592723182 Question Type : MCQ Option Shuffling : Yes
Correct Marks : 1 Wrong Marks : 0.25

Select the word which means the same as the group of words given.

A wide street in a town or city, typically one lined with trees.

Options :

1. ✖ Enclave
2. ✔ Boulevard
3. ✖ Highway
4. ✖ Artery

Question Number : 155 Question Id : 54592723183 Question Type : MCQ Option Shuffling : Yes

Correct Marks : 1 Wrong Marks : 0.25

Select the word which means the same as the group of words given.

A ruler with total power over a country, typically one who has obtained control by force

Options :

1. ✖ Tutor
2. ✖ Pastor
3. ✔ Dictator
4. ✖ Amateur

Question Number : 155 Question Id : 54592723183 Question Type : MCQ Option Shuffling : Yes

Correct Marks : 1 Wrong Marks : 0.25

Select the word which means the same as the group of words given.

A ruler with total power over a country, typically one who has obtained control by force

Options :

1. ✖ Tutor
2. ✖ Pastor
3. ✔ Dictator
4. ✖ Amateur

Sub-Section Number: 2
Sub-Section Id: 5459271377
Question Shuffling Allowed : Yes

Question Id : 54592723184 Question Type : COMPREHENSION Sub Question Shuffling Allowed : Yes Group Comprehension Questions : No

Question Numbers : (156 to 160)

Question Label : Comprehension

Answer the questions based on the following passage.

While plastic has many valuable uses, we have become addicted to single-use or disposable plastic — with severe environmental consequences. Around the world, one million plastic drinking bottles are purchased every minute, while up to 5 trillion single-use plastic bags are used worldwide every year. In total, half of all plastic produced is designed to be used only once — and then thrown away. Plastic waste is now so ubiquitous in the natural environment that scientists have even suggested it could serve as a geological indicator of the Anthropocene era.

We need to slow the flow of plastic at its source, but we also need to improve the way we manage our plastic waste. Because right now, a lot of it ends up in the environment.

Plastic waste — whether in a river, an ocean, or on land — can persist in the environment for centuries. The same properties that make plastics so useful — their durability and resistance to degradation — also make them nearly impossible for nature to completely break down. Most plastic items never fully disappear; they just get smaller and smaller. Many of these tiny plastic particles are swallowed by farm animals or fish who mistake them for food, and thus can find their way onto our dinner plates. They've also been found in a majority of the world's tap water. By clogging sewers and providing breeding grounds for mosquitoes and pests, plastic waste — especially plastic bags — can increase the transmission of vector-borne diseases like malaria.

But the world is waking up to the problem, and governments are starting to act.

There are a number of things that governments can do — from running public awareness campaigns, to offering incentives for recycling, to introducing levies or even banning certain products outright. In the last decade, dozens of national and local governments around the world have adopted policies to reduce the use of disposable plastic. And the number continues to grow. Africa stands out as the continent where the most countries have adopted a total ban on the production and use of plastic bags.

An impressive — and growing — number of national and local governments have taken action against plastic pollution. We've seen a lot of positive action, but the truth is that we all need to do more.

Sub questions

Question Number : 156 Question Id : 54592723185 Question Type : MCQ Option Shuffling : Yes
Correct Marks : 1 Wrong Marks : 0.25

The main concern of the author in the given passage is:

Options :

1. ✓ Plastic pollution
2. ✗ Public awareness campaigns
3. ✗ Ban on plastic products
4. ✗ Disposable plastic

Question Number : 157 Question Id : 54592723186 Question Type : MCQ Option Shuffling : Yes
Correct Marks : 1 Wrong Marks : 0.25

Which of the following statement is not true according to the passage?

Options :

1. ✗ Around the world, one million plastic drinking bottles are purchased every minute.
2. ✓ Plastic waste is not responsible for the transmission of vector borne disease.
3. ✗ Half of all plastic produced is designed to be used only once
4. ✗ Disposable plastic has severe environmental consequences

Question Number : 158 Question Id : 54592723187 Question Type : MCQ Option Shuffling : Yes
Correct Marks : 1 Wrong Marks : 0.25

Which properties of plastic make it nearly impossible to break down?

Options :

1. ✗ Durability
2. ✗ Resistance to degradation
3. ✓ Durability and Resistance to degradation
4. ✗ Recycling

Question Number : 159 Question Id : 54592723188 Question Type : MCQ Option Shuffling : Yes
Correct Marks : 1 Wrong Marks : 0.25

Which of the following options has not been suggested as one of the ways to tackle plastic pollution?

Options :

1. ✖ Running public awareness campaigns
2. ✖ Incentives for recycling
3. ✖ Introducing bans & levies
4. ✔ Promoting the use of single use plastic.

Question Number : 160 Question Id : 54592723189 Question Type : MCQ Option Shuffling : Yes
Correct Marks : 1 Wrong Marks : 0.25

From among the given options, choose the word which is most nearly the same as the word 'pervasive' as used in the 1st paragraph, 4th line:

Options :

1. ✔ Everywhere
2. ✖ Nearly
3. ✖ Hardly
4. ✖ Severe

Question Id : 54592723184 Question Type : COMPREHENSION Sub Question Shuffling Allowed : Yes Group Comprehension Questions : No
Question Numbers : (156 to 160)

Question Label : Comprehension

Answer the questions based on the following passage.

While plastic has many valuable uses, we have become addicted to single-use or disposable plastic – with severe environmental consequences. Around the world, one million plastic drinking bottles are purchased every minute, while up to 5 trillion single-use plastic bags are used worldwide every year. In total, half of all plastic produced is designed to be used only once – and then thrown away. Plastic waste is now so ubiquitous in the natural environment that scientists have even suggested it could serve as a geological indicator of the Anthropocene era.

We need to slow the flow of plastic at its source, but we also need to improve the way we manage our plastic waste. Because right now, a lot of it ends up in the environment.

Plastic waste – whether in a river, an ocean, or on land – can persist in the environment for centuries. The same properties that make plastics so useful – their durability and resistance to degradation – also make them nearly impossible for nature to completely break down. Most plastic items never fully disappear; they just get smaller and smaller. Many of these tiny plastic particles are swallowed by farm animals or fish who mistake them for food, and thus can find their way onto our dinner plates. They've also been found in a majority of the world's tap water. By clogging sewers and providing breeding grounds for mosquitoes and pests, plastic waste – especially plastic bags – can increase the transmission of vector-borne diseases like malaria.

But the world is waking up to the problem, and governments are starting to act.

There are a number of things that governments can do – from running public awareness campaigns, to offering incentives for recycling, to introducing levies or even banning certain products outright. In the last decade, dozens of national and local governments around the world have adopted policies to reduce the use of disposable plastic. And the number continues to grow. Africa stands out as the continent where the most countries have adopted a total ban on the production and use of plastic bags.

An impressive – and growing – number of national and local governments have taken action against plastic pollution. We've seen a lot of positive action, but the truth is that we all need to do more.

Sub questions

Question Number : 156 Question Id : 54592723185 Question Type : MCQ Option Shuffling : Yes
Correct Marks : 1 Wrong Marks : 0.25

The main concern of the author in the given passage is:

Options :

1. ✓ Plastic pollution
2. ✗ Public awareness campaigns
3. ✗ Ban on plastic products
4. ✗ Disposable plastic

Question Number : 157 Question Id : 54592723186 Question Type : MCQ Option Shuffling : Yes
Correct Marks : 1 Wrong Marks : 0.25

Which of the following statement is not true according to the passage?

Options :

1. ✗ Around the world, one million plastic drinking bottles are purchased every minute.
2. ✓ Plastic waste is not responsible for the transmission of vector borne disease.
3. ✗ Half of all plastic produced is designed to be used only once
4. ✗ Disposable plastic has severe environmental consequences

Question Number : 158 Question Id : 54592723187 Question Type : MCQ Option Shuffling : Yes
Correct Marks : 1 Wrong Marks : 0.25

Which properties of plastic make it nearly impossible to break down?

Options :

1. ✖ Durability
2. ✖ Resistance to degradation
3. ✔ Durability and Resistance to degradation
4. ✖ Recycling

Question Number : 159 Question Id : 54592723188 Question Type : MCQ Option Shuffling : Yes
Correct Marks : 1 Wrong Marks : 0.25

Which of the following options has not been suggested as one of the ways to tackle plastic pollution?

Options :

1. ✖ Running public awareness campaigns
2. ✖ Incentives for recycling
3. ✖ Introducing bans & levies
4. ✔ Promoting the use of single use plastic.

Question Number : 160 Question Id : 54592723189 Question Type : MCQ Option Shuffling : Yes
Correct Marks : 1 Wrong Marks : 0.25

From among the given options, choose the word which is most nearly the same as the word 'pervasive' as used in the 1st paragraph, 4th line:

Options :

1. ✔ Everywhere
2. ✖ Nearly
3. ✖ Hardly
4. ✖ Severe

General Hindi1

Group Number :	9
Group Id :	5459271149
Group Maximum Duration :	0
Group Minimum Duration :	0
Show Attended Group? :	No
Edit Attended Group? :	No
Break time:	0
Group Marks:	20
Is this Group for Examiner?:	No
Revisit allowed for group Instructions? :	Yes
Maximum Instruction Time:	0
Minimum Instruction Time:	0

General Hindi1

Section Id :	5459271149
Section Number :	1
Section type :	Online
Mandatory or Optional:	Mandatory
Number of Questions:	20
Number of Questions to be attempted:	20
Section Marks:	20

Sub-Section Number:	1
Sub-Section Id:	5459271378
Question Shuffling Allowed :	Yes

Question Number : 161 Question Id : 54592723190 Question Type : MCQ Option Shuffling : Yes
Correct Marks : 1 Wrong Marks : 0.25

अलमारी किस भाषा का मूल शब्द है जिसे हिंदी में ग्रहण किया गया है?

Options :

- ✖ अंग्रेजी
- ✖ तुर्की
- ✔ पुर्तगाली
- ✖ फ्रेंच

Question Number : 161 Question Id : 54592723190 Question Type : MCQ Option Shuffling : Yes
Correct Marks : 1 Wrong Marks : 0.25

अलमारी किस भाषा का मूल शब्द है जिसे हिंदी में ग्रहण किया गया है?

Options :

- ✖ अंग्रेजी

2. ✖ तुर्की
3. ✔ पुर्तगाली
4. ✖ फ्रेंच

Question Number : 162 Question Id : 54592723191 Question Type : MCQ Option Shuffling : Yes
Correct Marks : 1 Wrong Marks : 0.25

'पुलकित' शब्द में प्रत्यय है:

Options :

1. ✖ त
2. ✖ कित
3. ✔ इत
4. ✖ ईत

Question Number : 162 Question Id : 54592723191 Question Type : MCQ Option Shuffling : Yes
Correct Marks : 1 Wrong Marks : 0.25

'पुलकित' शब्द में प्रत्यय है:

Options :

1. ✖ त
2. ✖ कित
3. ✔ इत
4. ✖ ईत

Question Number : 163 Question Id : 54592723192 Question Type : MCQ Option Shuffling : Yes
Correct Marks : 1 Wrong Marks : 0.25

काली मिर्च के विग्रह को रेखांकित कीजिए:

Options :

1. ✖ काली मिर्च
2. ✖ काली और मिर्च
3. ✖ काली है मिर्च जिसकी
4. ✔ काली है जो मिर्च

Question Number : 163 Question Id : 54592723192 Question Type : MCQ Option Shuffling : Yes

Correct Marks : 1 Wrong Marks : 0.25

काली मिर्च के विग्रह को रेखांकित कीजिए:

Options :

1. ✖ काली मिर्च
2. ✖ काली और मिर्च
3. ✖ काली है मिर्च जिसकी
4. ✔ काली है जो मिर्च

Question Number : 164 Question Id : 54592723193 Question Type : MCQ Option Shuffling : Yes

Correct Marks : 1 Wrong Marks : 0.25

निम्नलिखित में कौन-सा शब्द विसर्ग सन्धि का उदाहरण?

Options :

1. ✔ अतएव
2. ✖ नरेन्द्र
3. ✖ सज्जन
4. ✖ सदैव

Question Number : 164 Question Id : 54592723193 Question Type : MCQ Option Shuffling : Yes

Correct Marks : 1 Wrong Marks : 0.25

निम्नलिखित में कौन-सा शब्द विसर्ग सन्धि का उदाहरण?

Options :

1. ✔ अतएव
2. ✖ नरेन्द्र
3. ✖ सज्जन
4. ✖ सदैव

Question Number : 165 Question Id : 54592723194 Question Type : MCQ Option Shuffling : Yes

Correct Marks : 1 Wrong Marks : 0.25

निम्नलिखित में कौन-सा शब्द भाववाचक संज्ञा नहीं है?

Options :

1. ✖ सच्चाई

2. ✖ ऊँचाई
3. ✖ महानता
4. ✓ अभिनंदन

Question Number : 165 Question Id : 54592723194 Question Type : MCQ Option Shuffling : Yes
Correct Marks : 1 Wrong Marks : 0.25

निम्नलिखित में कौन-सा शब्द भाववाचक संज्ञा नहीं है?

Options :

1. ✖ सच्चाई
2. ✖ ऊँचाई
3. ✖ महानता
4. ✓ अभिनंदन

Question Number : 166 Question Id : 54592723195 Question Type : MCQ Option Shuffling : Yes
Correct Marks : 1 Wrong Marks : 0.25

निम्नलिखित में कौन-सा शब्द 'कमल' का पर्यायवाची नहीं है?

Options :

1. ✖ सरोज
2. ✖ अम्बुज
3. ✖ नलिन
4. ✓ विलोचन

Question Number : 166 Question Id : 54592723195 Question Type : MCQ Option Shuffling : Yes
Correct Marks : 1 Wrong Marks : 0.25

निम्नलिखित में कौन-सा शब्द 'कमल' का पर्यायवाची नहीं है?

Options :

1. ✖ सरोज
2. ✖ अम्बुज
3. ✖ नलिन
4. ✓ विलोचन

Question Number : 167 Question Id : 54592723196 Question Type : MCQ Option Shuffling : Yes
Correct Marks : 1 Wrong Marks : 0.25

निम्नलिखित में कौन-सा शब्द 'आकर्षण' का विलोम शब्द है?

Options :

1. * आकृष्ट
2. * विकृष्ट
3. ✓ विकर्षण
4. * संकर्षण

Question Number : 167 Question Id : 54592723196 Question Type : MCQ Option Shuffling : Yes
Correct Marks : 1 Wrong Marks : 0.25

निम्नलिखित में कौन-सा शब्द 'आकर्षण' का विलोम शब्द है?

Options :

1. * आकृष्ट
2. * विकृष्ट
3. ✓ विकर्षण
4. * संकर्षण

Question Number : 168 Question Id : 54592723197 Question Type : MCQ Option Shuffling : Yes
Correct Marks : 1 Wrong Marks : 0.25

"बहुत तेज चलने वाला" वाक्यांश के लिए दिए गए विकल्पों में उपर्युक्त शब्द चुनिए:

Options :

1. * थलचर
2. ✓ द्रुतगामी
3. * जलचर
4. * नभचर

Question Number : 168 Question Id : 54592723197 Question Type : MCQ Option Shuffling : Yes
Correct Marks : 1 Wrong Marks : 0.25

"बहुत तेज चलने वाला" वाक्यांश के लिए दिए गए विकल्पों में उपर्युक्त शब्द चुनिए:

Options :

1. ✖ थलचर
2. ✔ द्रुतगामी
3. ✖ जलचर
4. ✖ नभचर

Question Number : 169 Question Id : 54592723198 Question Type : MCQ Option Shuffling : Yes
Correct Marks : 1 Wrong Marks : 0.25

'अज' शब्द का सही अर्थ है:

Options :

1. ✔ बकरा
2. ✖ गेहूँ
3. ✖ वायु
4. ✖ प्रणय

Question Number : 169 Question Id : 54592723198 Question Type : MCQ Option Shuffling : Yes
Correct Marks : 1 Wrong Marks : 0.25

'अज' शब्द का सही अर्थ है:

Options :

1. ✔ बकरा
2. ✖ गेहूँ
3. ✖ वायु
4. ✖ प्रणय

Question Number : 170 Question Id : 54592723199 Question Type : MCQ Option Shuffling : Yes
Correct Marks : 1 Wrong Marks : 0.25

निम्नलिखित में से असंगत (बेमेल) शब्द का चयन करें:

Options :

1. ✔ गज
2. ✖ अश्व
3. ✖ हय

4. ✖ बाजि

Question Number : 170 Question Id : 54592723199 Question Type : MCQ Option Shuffling : Yes
Correct Marks : 1 Wrong Marks : 0.25

निम्नलिखित में से असंगत (बेमेल) शब्द का चयन करें:

Options :

1. ✔ गज
2. ✖ अश्व
3. ✖ हय
4. ✖ बाजि

Question Number : 171 Question Id : 54592723200 Question Type : MCQ Option Shuffling : Yes
Correct Marks : 1 Wrong Marks : 0.25

'अंतरंग' का विलोम शब्द है:

Options :

1. ✖ अभ्यंतर
2. ✖ रंक
3. ✔ बहिरंग
4. ✖ अंधकार

Question Number : 171 Question Id : 54592723200 Question Type : MCQ Option Shuffling : Yes
Correct Marks : 1 Wrong Marks : 0.25

'अंतरंग' का विलोम शब्द है:

Options :

1. ✖ अभ्यंतर
2. ✖ रंक
3. ✔ बहिरंग
4. ✖ अंधकार

Question Number : 172 Question Id : 54592723201 Question Type : MCQ Option Shuffling : Yes
Correct Marks : 1 Wrong Marks : 0.25

'किनारा' का अर्थ है:

Options :

1. ✓ जहाँ तक जल की पहुँच हो
2. ✖ जहाँ लक लहरों की पहुँच हो
3. ✖ टूट फूट से होने वाली हानि
4. ✖ कार्यारंभ से पूर्व की अड़चने

Question Number : 172 Question Id : 54592723201 Question Type : MCQ Option Shuffling : Yes
Correct Marks : 1 Wrong Marks : 0.25

'किनारा' का अर्थ है:

Options :

1. ✓ जहाँ तक जल की पहुँच हो
2. ✖ जहाँ लक लहरों की पहुँच हो
3. ✖ टूट फूट से होने वाली हानि
4. ✖ कार्यारंभ से पूर्व की अड़चने

Question Number : 173 Question Id : 54592723202 Question Type : MCQ Option Shuffling : Yes
Correct Marks : 1 Wrong Marks : 0.25

निम्नलिखित में से कौनसा एक युग्म समानार्थी है:

Options :

1. ✖ नदी-पहाड़
2. ✖ हानि-लाभ
3. ✖ जीवन-मरण
4. ✓ बाधा-विघ्न

Question Number : 173 Question Id : 54592723202 Question Type : MCQ Option Shuffling : Yes
Correct Marks : 1 Wrong Marks : 0.25

निम्नलिखित में से कौनसा एक युग्म समानार्थी है:

Options :

1. ✖ नदी-पहाड़
2. ✖ हानि-लाभ
3. ✖ जीवन-मरण

4. ✓ बाधा-विघ्न

Question Number : 174 Question Id : 54592723203 Question Type : MCQ Option Shuffling : Yes
Correct Marks : 1 Wrong Marks : 0.25

_____ व्यक्ति सरल व्यक्ति की सरलता नहीं छीन सकता।

Options :

1. ✖ कृत्रिम
2. ✓ कुटिल
3. ✖ कठिन
4. ✖ क्रय

Question Number : 174 Question Id : 54592723203 Question Type : MCQ Option Shuffling : Yes
Correct Marks : 1 Wrong Marks : 0.25

_____ व्यक्ति सरल व्यक्ति की सरलता नहीं छीन सकता।

Options :

1. ✖ कृत्रिम
2. ✓ कुटिल
3. ✖ कठिन
4. ✖ क्रय

Question Number : 175 Question Id : 54592723204 Question Type : MCQ Option Shuffling : Yes
Correct Marks : 1 Wrong Marks : 0.25

किसी प्रिय व्यक्ति की मृत्यु पर होने वाला दुःख क्या कहा जाता है?

Options :

1. ✖ दुःख
2. ✖ खेद
3. ✓ शोक
4. ✖ कष्ट

Question Number : 175 Question Id : 54592723204 Question Type : MCQ Option Shuffling : Yes
Correct Marks : 1 Wrong Marks : 0.25

किसी प्रिय व्यक्ति की मृत्यु पर होने वाला दुःख क्या कहा जाता है?

Options :

1. ✖ दुःख
2. ✖ खेद
3. ✔ शोक
4. ✖ कष्ट

Question Number : 176 Question Id : 54592723205 Question Type : MCQ Option Shuffling : Yes
Correct Marks : 1 Wrong Marks : 0.25

'ट' वर्ण का सही सही उच्चारण स्थान क्या है?

Options :

1. ✖ तालू
2. ✖ कंठ
3. ✔ मुर्धा
4. ✖ दंत

Question Number : 176 Question Id : 54592723205 Question Type : MCQ Option Shuffling : Yes
Correct Marks : 1 Wrong Marks : 0.25

'ट' वर्ण का सही सही उच्चारण स्थान क्या है?

Options :

1. ✖ तालू
2. ✖ कंठ
3. ✔ मुर्धा
4. ✖ दंत

Question Number : 177 Question Id : 54592723206 Question Type : MCQ Option Shuffling : Yes
Correct Marks : 1 Wrong Marks : 0.25

निम्नलिखित में से कौन-सा शब्द पुलिंग है?

Options :

1. ✔ मोती
2. ✖ रोटी
3. ✖ मोटी

4. ✖ चीनी

Question Number : 177 Question Id : 54592723206 Question Type : MCQ Option Shuffling : Yes
Correct Marks : 1 Wrong Marks : 0.25

निम्नलिखित में से कौन-सा शब्द पुलिंग है?

Options :

1. ✔ मोती

2. ✖ रोटी

3. ✖ मोटी

4. ✖ चीनी

Question Number : 178 Question Id : 54592723207 Question Type : MCQ Option Shuffling : Yes
Correct Marks : 1 Wrong Marks : 0.25

'यह' कौन-सा सर्वनाम है?

Options :

1. ✖ पुरुषवाचक

2. ✖ प्रश्नवाचक

3. ✔ निश्चयवाचक

4. ✖ अनिश्चयवाचक

Question Number : 178 Question Id : 54592723207 Question Type : MCQ Option Shuffling : Yes
Correct Marks : 1 Wrong Marks : 0.25

'यह' कौन-सा सर्वनाम है?

Options :

1. ✖ पुरुषवाचक

2. ✖ प्रश्नवाचक

3. ✔ निश्चयवाचक

4. ✖ अनिश्चयवाचक

Question Number : 179 Question Id : 54592723208 Question Type : MCQ Option Shuffling : Yes
Correct Marks : 1 Wrong Marks : 0.25

'राम ने खाया होगा' इस वाक्य में भूतकाल के किस रूप में क्रिया के होने का ज्ञान हो रहा है?

Options :

1. * सामान्य भूतकाल
2. ✓ संदिग्ध भूतकाल
3. * अपूर्ण भूतकाल
4. * हेतु भूतकाल

Question Number : 179 Question Id : 54592723208 Question Type : MCQ Option Shuffling : Yes

Correct Marks : 1 Wrong Marks : 0.25

'राम ने खाया होगा' इस वाक्य में भूतकाल के किस रूप में क्रिया के होने का ज्ञान हो रहा है?

Options :

1. * सामान्य भूतकाल
2. ✓ संदिग्ध भूतकाल
3. * अपूर्ण भूतकाल
4. * हेतु भूतकाल

Question Number : 180 Question Id : 54592723209 Question Type : MCQ Option Shuffling : Yes

Correct Marks : 1 Wrong Marks : 0.25

'वह कलम से लिखता है' यहाँ 'कलम से' में कौन-सा कारक है?

Options :

1. ✓ कर्ण
2. * क्रम
3. * सम्प्रदान
4. * अपादान

Question Number : 180 Question Id : 54592723209 Question Type : MCQ Option Shuffling : Yes

Correct Marks : 1 Wrong Marks : 0.25

'वह कलम से लिखता है' यहाँ 'कलम से' में कौन-सा कारक है?

Options :

1. ✓ कर्ण
2. ✖ क्रम
3. ✖ सम्प्रदान
4. ✖ अपादान

General Hindi2

Group Number :	10
Group Id :	5459271150
Group Maximum Duration :	0
Group Minimum Duration :	120
Show Attended Group? :	No
Edit Attended Group? :	No
Break time:	0
Group Marks:	20
Is this Group for Examiner?:	No
Revisit allowed for group Instructions? :	Yes
Maximum Instruction Time:	0
Minimum Instruction Time:	0

General Hindi2

Section Id :	5459271150
Section Number :	1
Section type :	Online
Mandatory or Optional:	Mandatory
Number of Questions:	16
Number of Questions to be attempted:	16
Section Marks:	20

Sub-Section Number:	1
Sub-Section Id:	5459271379
Question Shuffling Allowed :	Yes

Question Number : 181 Question Id : 54592723210 Question Type : MCQ Option Shuffling : Yes
Correct Marks : 1 Wrong Marks : 0.25

'उसने लड़ाई लड़ी' यह कौन-सी क्रिया है?

Options :

1. ✖ अकर्मक
2. ✓ सकर्मक

3. ✖ प्रेरणार्थक

4. ✖ सहायक

Question Number : 181 Question Id : 54592723210 Question Type : MCQ Option Shuffling : Yes
Correct Marks : 1 Wrong Marks : 0.25

'उसने लड़ाई लड़ी' यह कौन-सी क्रिया है?

Options :

1. ✖ अकर्मक

2. ✔ सकर्मक

3. ✖ प्रेरणार्थक

4. ✖ सहायक

Question Number : 182 Question Id : 54592723211 Question Type : MCQ Option Shuffling : Yes
Correct Marks : 1 Wrong Marks : 0.25

'मृत्यु' का इनमें से कौन-सा विशेषण शब्द है?

Options :

1. ✖ मृत्तिका

2. ✖ मौत

3. ✖ मातृ

4. ✔ मृत

Question Number : 182 Question Id : 54592723211 Question Type : MCQ Option Shuffling : Yes
Correct Marks : 1 Wrong Marks : 0.25

'मृत्यु' का इनमें से कौन-सा विशेषण शब्द है?

Options :

1. ✖ मृत्तिका

2. ✖ मौत

3. ✖ मातृ

4. ✔ मृत

Question Number : 183 Question Id : 54592723212 Question Type : MCQ Option Shuffling : Yes
Correct Marks : 1 Wrong Marks : 0.25

निम्नलिखित में से कौन-सा शब्द बहुवचन है?

Options :

1. ✖ माता
2. ✔ प्राण
3. ✖ लड़का
4. ✖ किताब

Question Number : 183 Question Id : 54592723212 Question Type : MCQ Option Shuffling : Yes

Correct Marks : 1 Wrong Marks : 0.25

निम्नलिखित में से कौन-सा शब्द बहुवचन है?

Options :

1. ✖ माता
2. ✔ प्राण
3. ✖ लड़का
4. ✖ किताब

Question Number : 184 Question Id : 54592723213 Question Type : MCQ Option Shuffling : Yes

Correct Marks : 1 Wrong Marks : 0.25

निम्नलिखित में से किस वाक्य में क्रिया वर्तमान काल में है?

Options :

1. ✖ उसने फल खा लिए थे।
2. ✔ मैं तुम्हारा पत्र पढ़ रहा हूँ।
3. ✖ अचानक बिजली कौंध उठी।
4. ✖ कल वे आने वाले थे।

Question Number : 184 Question Id : 54592723213 Question Type : MCQ Option Shuffling : Yes

Correct Marks : 1 Wrong Marks : 0.25

निम्नलिखित में से किस वाक्य में क्रिया वर्तमान काल में है?

Options :

1. ✖ उसने फल खा लिए थे।
2. ✔ मैं तुम्हारा पत्र पढ़ रहा हूँ।

3. ✖ अचानक बिजली कौंध उठी।

4. ✖ कल वे आने वाले थे।

Question Number : 185 Question Id : 54592723214 Question Type : MCQ Option Shuffling : Yes
Correct Marks : 1 Wrong Marks : 0.25

सत्य और अहिंसा का _____ सम्बन्ध है।

Options :

1. ✖ भीषण

2. ✖ विकट

3. ✔ घनिष्ट

4. ✖ निकट

Question Number : 185 Question Id : 54592723214 Question Type : MCQ Option Shuffling : Yes
Correct Marks : 1 Wrong Marks : 0.25

सत्य और अहिंसा का _____ सम्बन्ध है।

Options :

1. ✖ भीषण

2. ✖ विकट

3. ✔ घनिष्ट

4. ✖ निकट

Question Number : 186 Question Id : 54592723215 Question Type : MCQ Option Shuffling : Yes
Correct Marks : 1 Wrong Marks : 0.25

निम्नलिखित में से शुद्ध वाक्य का चयन कीजिए:

Options :

1. ✖ यह मेरा पुस्तक है।

2. ✔ श्रीकृष्ण के अनेक नाम हैं।

3. ✖ बन्दूक एक उपयोगी शस्त्र है।

4. ✖ बाघ और बकरी एक घाट पर पानी पीती हैं।

Question Number : 186 Question Id : 54592723215 Question Type : MCQ Option Shuffling : Yes
Correct Marks : 1 Wrong Marks : 0.25

निम्नलिखित में से शुद्ध वाक्य का चयन कीजिए:

Options :

1. * यह मेरा पुस्तक है।
2. ✓ श्रीकृष्ण के अनेक नाम हैं।
3. * बन्दूक एक उपयोगी शस्त्र है।
4. * बाघ और बकरी एक घाट पर पानी पीती हैं।

Question Number : 187 Question Id : 54592723216 Question Type : MCQ Option Shuffling : Yes
Correct Marks : 1 Wrong Marks : 0.25

निम्नलिखित में से वाक्य के शुद्ध रूप का चयन कीजिए:

Options :

1. * कृपया आज का अवकाश देने की कृपा करें।
2. * कृपया आज का अवकाश कृपया देने की कृपा करें।
3. ✓ आज का अवकाश देने की कृपा करें।
4. * आज का कृपया अवकाश देने की कृपा करें।

Question Number : 187 Question Id : 54592723216 Question Type : MCQ Option Shuffling : Yes
Correct Marks : 1 Wrong Marks : 0.25

निम्नलिखित में से वाक्य के शुद्ध रूप का चयन कीजिए:

Options :

1. * कृपया आज का अवकाश देने की कृपा करें।
2. * कृपया आज का अवकाश कृपया देने की कृपा करें।
3. ✓ आज का अवकाश देने की कृपा करें।
4. * आज का कृपया अवकाश देने की कृपा करें।

Question Number : 188 Question Id : 54592723217 Question Type : MCQ Option Shuffling : Yes
Correct Marks : 1 Wrong Marks : 0.25

'सुबह शाम करना' का अर्थ है:

Options :

1. * समय व्यतीत करना
2. * आवारागर्दी करना

3. ✓ टाल-मटोल करना

4. ✗ दिन-रात करना

Question Number : 188 Question Id : 54592723217 Question Type : MCQ Option Shuffling : Yes
Correct Marks : 1 Wrong Marks : 0.25

'सुबह शाम करना' का अर्थ है:

Options :

1. ✗ समय व्यतीत करना

2. ✗ आवारागर्दी करना

3. ✓ टाल-मटोल करना

4. ✗ दिन-रात करना

Question Number : 189 Question Id : 54592723218 Question Type : MCQ Option Shuffling : Yes
Correct Marks : 1 Wrong Marks : 0.25

'बुरी तरह हारना' के लिए सही मुहावरा है:

Options :

1. ✗ मुँह खून लगना

2. ✗ मुँह ताकना

3. ✗ मुँह उतरना

4. ✓ मुँह की खाना

Question Number : 189 Question Id : 54592723218 Question Type : MCQ Option Shuffling : Yes
Correct Marks : 1 Wrong Marks : 0.25

'बुरी तरह हारना' के लिए सही मुहावरा है:

Options :

1. ✗ मुँह खून लगना

2. ✗ मुँह ताकना

3. ✗ मुँह उतरना

4. ✓ मुँह की खाना

Question Number : 190 Question Id : 54592723219 Question Type : MCQ Option Shuffling : Yes
Correct Marks : 1 Wrong Marks : 0.25

'तेली का बेल होने का अर्थ है:

Options :

1. ✓ पूरी तरह काम में लगे रहना
2. ✗ काम करने से बहाना करना
3. ✗ मन लगाकर काम नहीं करना
4. ✗ निर्धन होना

Question Number : 190 Question Id : 54592723219 Question Type : MCQ Option Shuffling : Yes

Correct Marks : 1 Wrong Marks : 0.25

'तेली का बेल होने का अर्थ है:

Options :

1. ✓ पूरी तरह काम में लगे रहना
2. ✗ काम करने से बहाना करना
3. ✗ मन लगाकर काम नहीं करना
4. ✗ निर्धन होना

Question Number : 191 Question Id : 54592723220 Question Type : MCQ Option Shuffling : Yes

Correct Marks : 1 Wrong Marks : 0.25

चोर-चोर _____ भाई (वाक्य पूरा करें)।

Options :

1. ✗ सगे
2. ✗ चचेरे
3. ✓ मौसेरे
4. ✗ ममेरे

Question Number : 191 Question Id : 54592723220 Question Type : MCQ Option Shuffling : Yes

Correct Marks : 1 Wrong Marks : 0.25

चोर-चोर _____ भाई (वाक्य पूरा करें)।

Options :

1. ✗ सगे
2. ✗ चचेरे

3. ✓ मौसरे

4. ✖ ममेरे

Question Number : 192 Question Id : 54592723221 Question Type : MCQ Option Shuffling : Yes
Correct Marks : 1 Wrong Marks : 0.25

'हँसुए के व्याह में खुरपी का गीत' का अर्थ है:

Options :

1. ✖ शादी का गीत गाना

2. ✓ असंगत बातें करना

3. ✖ जश्न मनाना

4. ✖ बुरा कार्य करना

Question Number : 192 Question Id : 54592723221 Question Type : MCQ Option Shuffling : Yes
Correct Marks : 1 Wrong Marks : 0.25

'हँसुए के व्याह में खुरपी का गीत' का अर्थ है:

Options :

1. ✖ शादी का गीत गाना

2. ✓ असंगत बातें करना

3. ✖ जश्न मनाना

4. ✖ बुरा कार्य करना

Question Number : 193 Question Id : 54592723222 Question Type : MCQ Option Shuffling : Yes
Correct Marks : 1 Wrong Marks : 0.25

'उधो का लेना न माधो को देना' का अर्थ है:

Options :

1. ✓ अपने काम से काम रखना

2. ✖ भक्ति भाव से दूर रहना

3. ✖ हिसाब साफ रखना

4. ✖ सबसे अलग रहना

Question Number : 193 Question Id : 54592723222 Question Type : MCQ Option Shuffling : Yes
Correct Marks : 1 Wrong Marks : 0.25

'उधो का लेना न माधो को देना' का अर्थ है:

Options :

1. ✓ अपने काम से काम रखना
2. ✖ भक्ति भाव से दूर रहना
3. ✖ हिसाब साफ रखना
4. ✖ सबसे अलग रहना

Question Number : 194 Question Id : 54592723223 Question Type : MCQ Option Shuffling : Yes
Correct Marks : 1 Wrong Marks : 0.25

हिंदी भाषा में विराम चिन्ह आये हैं:

Options :

1. ✖ फ्रेंच भाषा से
2. ✖ संस्कृत भाषा से
3. ✖ रूसी भाषा से
4. ✓ अंग्रेजी भाषा से

Question Number : 194 Question Id : 54592723223 Question Type : MCQ Option Shuffling : Yes
Correct Marks : 1 Wrong Marks : 0.25

हिंदी भाषा में विराम चिन्ह आये हैं:

Options :

1. ✖ फ्रेंच भाषा से
2. ✖ संस्कृत भाषा से
3. ✖ रूसी भाषा से
4. ✓ अंग्रेजी भाषा से

Question Number : 195 Question Id : 54592723224 Question Type : MCQ Option Shuffling : Yes
Correct Marks : 1 Wrong Marks : 0.25

कथन में जिज्ञासा या संभावना का बोध करवाने वाला चिन्ह कहलाता है:

Options :

1. ✖ विवरण सूचक चिन्ह
2. ✓ प्रश्नवाचक चिन्ह

3. ✖ समाप्तिबोधक चिन्ह
4. ✖ विस्मयबोधक चिन्ह

Question Number : 195 Question Id : 54592723224 Question Type : MCQ Option Shuffling : Yes
Correct Marks : 1 Wrong Marks : 0.25

कथन में जिज्ञासा या संभावना का बोध करवाने वाला चिन्ह कहलाता है:

Options :

1. ✖ विवरण सूचक चिन्ह
2. ✔ प्रश्नवाचक चिन्ह
3. ✖ समाप्तिबोधक चिन्ह
4. ✖ विस्मयबोधक चिन्ह

Sub-Section Number: 2
Sub-Section Id: 5459271380
Question Shuffling Allowed : Yes

Question Id : 54592723225 Question Type : COMPREHENSION Sub Question Shuffling Allowed : Yes Group Comprehension
Questions : No
Question Numbers : (196 to 200)

Question Label : Comprehension

नीचे लिखे अपठित गद्यांश को पढ़िए और प्रश्न का उत्तर दीजिए।

कुछ लाख ही वर्षों की बात है, जब मनुष्य जंगली था। वनमानुष जैसा। उसे नाखून की जरूरत थी। उसकी जीवन रक्षा के लिए नाखून बहुत जरूरी थे। असल में वही उसके अस्त्र थे दांत भी थे, पर नाखून के बाद ही उनका स्थान था। उन दिनों उसे जूझना पड़ता था, प्रतिद्वंद्वियों को पछताना पड़ता था, नाखून उसके लिए आवश्यक अंग था। फिर धीरे-धीरे वह अपने अंग से बाहर की वस्तुओं का सहारा लेने लगा। पत्थर के ढेले पर पेड़ की डाले काम में नाने लगा। रामचंद्रजी की वानरी सेनाके पास ऐसे ही अस्त्र थे। उसने हड्डी के भी हथियार भी बनाये। इन हड्डी के हथियारों में सबसे मजबूत और सबसे ऐतिहासिक थे देवताओं के राजा बज्र, जो दधीचि मुनि की हड्डियों से का बना था। मनुष्य ओर आगे बढ़ा, उसने धातु के हथियार बनाए। जिसके पास लोहे के शस्त्र और अस्त्र थे वह विजयी हुआ। देवताओं के राजा के पास लोहे के अस्त्र थे असुरों के पास अनेक विधाएँ थी, पर लोहे के अस्त्र नहीं थे। आर्यों के पास ये दोनों चीजें थी। आर्य विजयी हुए। फिर इतिहास अपनी गति से बढ़ता गया, नाग हारे, सुपर्ण हारे, यक्ष हारे, गन्धर्व हारे, असुर हारे, राक्षस हारे, लोहे के अस्त्रों ने बाजी मार ली। इतिहास आगे बढ़ा। पलीते वाली बन्दूकों ने, कारतूसों ने, तोपों ने, बमवर्षक वायुयानों ने किस कीचड़ भरे घाट तक घसीटा है, सब सबको मालूम है। नख-धर मनुष्य अब एटम-बम पर भरोसा करके आगे की ओर चल पड़ा है।

Sub questions

Question Number : 196 Question Id : 54592723226 Question Type : MCQ Option Shuffling : Yes

Correct Marks : 1 Wrong Marks : 0.25

लाखों वर्ष पहले मनुष्य को नाखूनों की इसलिए आवश्यकता थी, क्योंकि वह इनमें:

Options :

1. * अपने शरीर को खुजला सकता था
2. * फलों को छील या काट सकता था
3. * जमीन को खोद सकता था
4. ✓ अपने विरोधियों को पछाड़ सकता था

Question Number : 197 Question Id : 54592723227 Question Type : MCQ Option Shuffling : Yes

Correct Marks : 1 Wrong Marks : 0.25

रामचन्द्र की वानरी सेना के अस्त्र थे:

Options :

1. * लोहे के बने बाण, भाले आदि
2. ✓ पत्थरों के बने ढेले और वृक्षों की छालें
3. * हड्डियों से बने वज्र आदि
4. * बारूद से बने गोले, बम आदि

Question Number : 198 Question Id : 54592723228 Question Type : MCQ Option Shuffling : Yes
Correct Marks : 1 Wrong Marks : 0.25

असुरों से देवता इसलिए जीते क्योंकि उनके पास:

Options :

1. * अनेक विधाएँ थी
2. * अश्व थे
3. * वज्र थे
4. ✓ अश्व और लोहे के अस्त्र थे

Question Number : 199 Question Id : 54592723229 Question Type : MCQ Option Shuffling : Yes
Correct Marks : 1 Wrong Marks : 0.25

नख-धर मनुष्य को सबसे अधिक विश्वास है:

Options :

1. ✓ पलीते वाले कारतूसों और बमों पर
2. * लोहे से बने अस्त्रों पर
3. * अपनी विधाओं पर
4. * अपने अश्वों पर

Question Number : 200 Question Id : 54592723230 Question Type : MCQ Option Shuffling : Yes
Correct Marks : 1 Wrong Marks : 0.25

उपयुक्त शीर्षक का चयन करें।

Options :

1. * उपयुक्त शीर्षक का चयन करें-
2. * बढ़ते युद्ध
3. * प्रकृति
4. ✓ सुरक्षा कवच विनाश का कारण

Question Id : 54592723225 Question Type : COMPREHENSION Sub Question Shuffling Allowed : Yes Group Comprehension Questions : No

Question Numbers : (196 to 200)

Question Label : Comprehension

नीचे लिखे अपठित गद्यांश को पढ़िए और प्रश्न का उत्तर दीजिए।

कुछ लाख ही वर्षों की बात है, जब मनुष्य जंगली था। वनमानुष जैसा। उसे नाखून की जरूरत थी। उसकी जीवन रक्षा के लिए नाखून बहुत जरूरी थे। असल में वही उसके अस्त्र थे दांत भी थे, पर नाखून के बाद ही उनका स्थान था। उन दिनों उसे जूझना पड़ता था, प्रतिद्वंद्वियों को पछताना पड़ता था, नाखून उसके लिए आवश्यक अंग था। फिर धीरे-धीरे वह अपने अंग से बाहर की वस्तुओं का सहारा लेने लगा। पत्थर के ढेले पर पेड़ की डाले काम में नाने लगा। रामचंद्रजी की वानरी सेनाके पास ऐसे ही अस्त्र थे। उसने हड्डी के भी हथियार भी बनाये। इन हड्डी के हथियारों में सबसे मजबूत और सबसे ऐतिहासिक थे देवताओं के राजा बज्र, जो दधीचि मुनि की हड्डियों से का बना था। मनुष्य ओर आगे बढ़ा, उसने धातु के हथियार बनाए। जिसके पास लोहे के शस्त्र और अस्त्र थे वह विजयी हुआ। देवताओं के राजा के पास लोहे के अस्त्र थे असुरों के पास अनेक विधाएँ थी, पर लोहे के अस्त्र नहीं थे। आर्यों के पास ये दोनों चीजें थी। आर्य विजयी हुए। फिर इतिहास अपनी गति से बढ़ता गया, नाग हारे, सुपर्ण हारे, यक्ष हारे, गन्धर्व हारे, असुर हारे, राक्षस हारे, लोहे के अस्त्रों ने बाजी मार ली। इतिहास आगे बढ़ा। पलीते वाली बन्दूकों ने, कारतूसों ने, तोपों ने, बमवर्षक वायुयानों ने किस कीचड़ भरे घाट तक घसीटा है, सब सबको मालूम है। नख-धर मनुष्य अब एटम-बम पर भरोसा करके आगे की ओर चल पड़ा है।

Sub questions

Question Number : 196 Question Id : 54592723226 Question Type : MCQ Option Shuffling : Yes

Correct Marks : 1 Wrong Marks : 0.25

लाखों वर्ष पहले मनुष्य को नाखूनों की इसलिए आवश्यकता थी, क्योंकि वह इनमें:

Options :

1. ✖ अपने शरीर को खुजला सकता था
2. ✖ फलों को छील या काट सकता था
3. ✖ जमीन को खोद सकता था
4. ✔ अपने विरोधियों को पछाड़ सकता था

Question Number : 197 Question Id : 54592723227 Question Type : MCQ Option Shuffling : Yes
Correct Marks : 1 Wrong Marks : 0.25

रामचन्द्र की वानरी सेना के अस्त्र थे:

Options :

1. ✖ लोहे के बने बाण, भाले आदि
2. ✔ पत्थरों के बने ढेले और वृक्षों की छालें
3. ✖ हड्डियों से बने वज्र आदि
4. ✖ बारूद से बने गोले, बम आदि

Question Number : 198 Question Id : 54592723228 Question Type : MCQ Option Shuffling : Yes
Correct Marks : 1 Wrong Marks : 0.25

असुरों से देवता इसलिए जीते क्योंकि उनके पास:

Options :

1. ✖ अनेक विधाएँ थी
2. ✖ अश्व थे
3. ✖ वज्र थे
4. ✔ अश्व और लोहे के अस्त्र थे

Question Number : 199 Question Id : 54592723229 Question Type : MCQ Option Shuffling : Yes
Correct Marks : 1 Wrong Marks : 0.25

नख-धर मनुष्य को सबसे अधिक विश्वास है:

Options :

1. ✓ पलीते वाले कारतूसों और बमों पर
2. ✖ लोहे से बने अस्त्रों पर
3. ✖ अपनी विधाओं पर
4. ✖ अपने अश्वों पर

Question Number : 200 Question Id : 54592723230 Question Type : MCQ Option Shuffling : Yes
Correct Marks : 1 Wrong Marks : 0.25

उपयुक्त शीर्षक का चयन करें।

Options :

1. ✖ उपयुक्त शीर्षक का चयन करें-
2. ✖ बढ़ते युद्ध
3. ✖ प्रकृति
4. ✓ सुरक्षा कवच विनाश का कारण