

DSSSB
Jr Assistant
Previous Year Paper
04 Sept, 2019 Shift 1



Adda247

Test Prime

ALL EXAMS, ONE SUBSCRIPTION



1,00,000+
Mock Tests



**Personalised
Report Card**



**Unlimited
Re-Attempt**



600+
Exam Covered



25,000+ Previous
Year Papers



500%
Refund



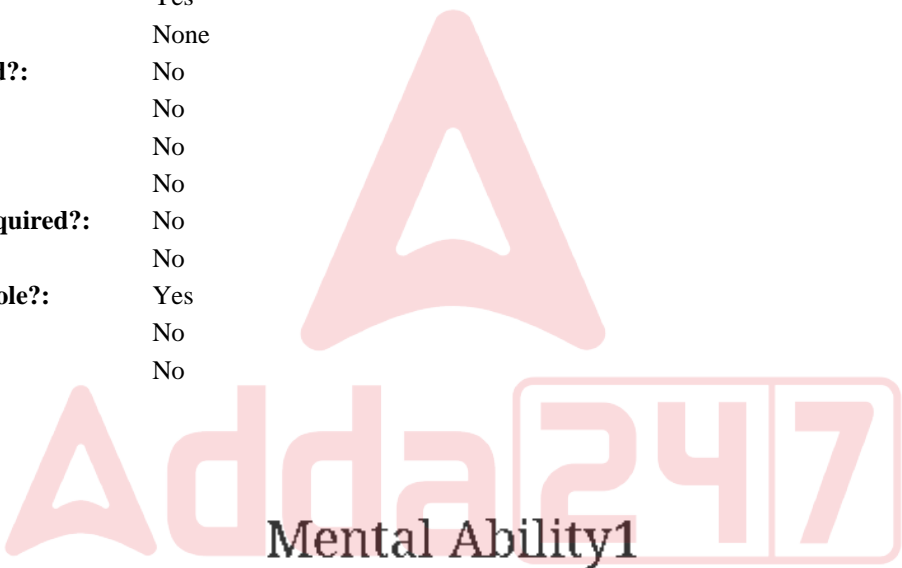
ATTEMPT FREE MOCK NOW

Education Consultant India Ltd.

Notations :

- 1.Options shown in green color and with ✓ icon are correct.
- 2.Options shown in red color and with ✖ icon are incorrect.

Question Paper Name:	Grade IV DASS Junior Assistant 04th September 2019 Shift 1
Subject Name:	GRADE IV DASS JUNIOR ASSISTANT
Creation Date:	2019-09-04 12:37:13
Duration:	120
Total Marks:	200
Display Marks:	Yes
Share Answer Key With Delivery Engine:	No
Actual Answer Key:	Yes
Calculator:	None
Magnifying Glass Required?:	No
Ruler Required?:	No
Eraser Required?:	No
Scratch Pad Required?:	No
Rough Sketch/Notepad Required?:	No
Protractor Required?:	No
Show Watermark on Console?:	Yes
Highlighter:	No
Auto Save on Console?:	No



Group Number :	1
Group Id :	5459271131
Group Maximum Duration :	0
Group Minimum Duration :	0
Show Attended Group? :	No
Edit Attended Group? :	No
Break time:	0
Group Marks:	20
Is this Group for Examiner?:	No
Revisit allowed for group Instructions? :	Yes
Maximum Instruction Time:	0
Minimum Instruction Time:	0

Mental Ability1

Section Id :	5459271131
Section Number :	1

Section type :	Online
Mandatory or Optional:	Mandatory
Number of Questions:	20
Number of Questions to be attempted:	20
Section Marks:	20

Sub-Section Number:	1
Sub-Section Id:	5459271357
Question Shuffling Allowed :	Yes

Question Number : 1 Question Id : 54592722827 Question Type : MCQ Option Shuffling : Yes
Correct Marks : 1 Wrong Marks : 0.25

From the given responses, find the missing letter in the series:

AE EI IM _____

Options :

1. ✖ MM
2. ✖ MJ
3. ✖ MT
4. ✔ MQ

Question Number : 1 Question Id : 54592722827 Question Type : MCQ Option Shuffling : Yes
Correct Marks : 1 Wrong Marks : 0.25

दिए गए विकल्पों में से श्रेणी में लुप्त अक्षर को ज्ञात करें:

AE EI IM _____

Options :

1. ✖ MM
2. ✖ MJ
3. ✖ MT
4. ✔ MQ

Question Number : 2 Question Id : 54592722828 Question Type : MCQ Option Shuffling : Yes
Correct Marks : 1 Wrong Marks : 0.25

Find the wrong term in the series?

IGE, SQO, VTR, ZXW

Options :

1. ✖ IGE
2. ✖ SQO
3. ✖ VTR
4. ✔ ZXW

Question Number : 2 Question Id : 54592722828 Question Type : MCQ Option Shuffling : Yes
Correct Marks : 1 Wrong Marks : 0.25

श्रृंखला में गलत पद खोजें?

IGE, SQO, VTR, ZXW

Options :

1. ✖ IGE
2. ✖ SQO
3. ✖ VTR
4. ✔ ZXW

Question Number : 3 Question Id : 54592722829 Question Type : MCQ Option Shuffling : Yes
Correct Marks : 1 Wrong Marks : 0.25

If all the letters of the word 'TEAM' are arranged according to the Dictionary then which letter will come SECOND from the right end?

Options :

1. ✔ M
2. ✖ T
3. ✖ E

4. ✖ A

Question Number : 3 Question Id : 54592722829 Question Type : MCQ Option Shuffling : Yes
Correct Marks : 1 Wrong Marks : 0.25

यदि शब्द 'TEAM' के सभी अक्षरों को शब्दकोश के अनुसार व्यवस्थित किया जाता है तो दाएं छोर से कौन सा अक्षर दूसरा होगा?

Options :

1. ✔ M

2. ✖ T

3. ✖ E

4. ✖ A

Question Number : 4 Question Id : 54592722830 Question Type : MCQ Option Shuffling : Yes
Correct Marks : 1 Wrong Marks : 0.25

Find the odd one out from the given alternatives.

Options :

1. ✖ Violet

2. ✖ Green

3. ✖ Red

4. ✔ Gold

Question Number : 4 Question Id : 54592722830 Question Type : MCQ Option Shuffling : Yes
Correct Marks : 1 Wrong Marks : 0.25

दिए गए विकल्पों में से विषम ज्ञात करें।

Options :

1. ✖ बैंगनी

2. ✖ हरा

3. ✖ लाल

4. ✔ सोना

Question Number : 5 Question Id : 54592722831 Question Type : MCQ Option Shuffling : Yes

Correct Marks : 1 Wrong Marks : 0.25

Choose the odd one from the given alternatives.

Options :

1. ✓ BDEGI
2. ✗ OPRTV
3. ✗ KMOTW
4. ✗ RVZAC

Question Number : 5 Question Id : 54592722831 Question Type : MCQ Option Shuffling : Yes
Correct Marks : 1 Wrong Marks : 0.25

दिए गए विकल्पों से भिन्न को चुनें।

Options :

1. ✓ BDEGI
2. ✗ OPRTV
3. ✗ KMOTW
4. ✗ RVZAC

Question Number : 6 Question Id : 54592722832 Question Type : MCQ Option Shuffling : Yes
Correct Marks : 1 Wrong Marks : 0.25

Choose the odd one from the given alternatives.

Options :

1. ✗ DCA
2. ✗ TSQ
3. ✓ YXW
4. ✗ UTR

Question Number : 6 Question Id : 54592722832 Question Type : MCQ Option Shuffling : Yes
Correct Marks : 1 Wrong Marks : 0.25

दिए गए विकल्पों में से विषम को चुनिए।

Options :

1. ✗ DCA

2. ✖ TSQ

3. ✔ YXW

4. ✖ UTR

Question Number : 7 Question Id : 54592722833 Question Type : MCQ Option Shuffling : Yes
Correct Marks : 1 Wrong Marks : 0.25

In the following question, select the related letter/word/number from the given alternatives.

SCHOOL: _____ :: HOSPITAL : PATIENTS

Options :

1. ✖ Teachers

2. ✖ Class rooms

3. ✔ Students

4. ✖ Building

Question Number : 7 Question Id : 54592722833 Question Type : MCQ Option Shuffling : Yes
Correct Marks : 1 Wrong Marks : 0.25

निम्नलिखित प्रश्न में दिए गए विकल्पों में से सम्बन्धित अक्षर/शब्द/संख्या को चुनिए।

स्कूल: _____ :: अस्पताल : मरीज

Options :

1. ✖ अध्यापक

2. ✖ कक्षा गृह

3. ✔ छात्र

4. ✖ इमारत

Question Number : 8 Question Id : 54592722834 Question Type : MCQ Option Shuffling : Yes
Correct Marks : 1 Wrong Marks : 0.25

DIRECTION: In the following question, select the related letter/word/number from the given alternatives.

India Gate : New Delhi :: _____ : _____

Note: For this question, discrepancy is found in question/answer. So, this question is ignored for all candidates.

Options :

1. City Palace : Jaipur
2. Amer Fort : Udaipur
3. Meenakshi Temple : Madurai
4. Victoria Memorial : Siliguri

Question Number : 8 Question Id : 54592722834 Question Type : MCQ Option Shuffling : Yes

Correct Marks : 1 Wrong Marks : 0.25

निर्देश: निम्नलिखित प्रश्न में दिए गए विकल्पों में से सम्बन्धित अक्षर/शब्द/संख्या को चुनिए।

इंडिया गेट: नई दिल्ली:: _____ : _____

Note: For this question, discrepancy is found in question/answer. So, this question is ignored for all candidates.

Options :

1. सिटी पैलेस : जयपुर
2. आमेर का किला : उदयपुर
3. मीनाक्षी मंदिर : मदुराई
4. विक्टोरिया मेमोरियल : सिलीगुड़ी

Question Number : 9 Question Id : 54592722835 Question Type : MCQ Option Shuffling : Yes

Correct Marks : 1 Wrong Marks : 0.25

In the following question, select the related letter/word/number from the given alternatives.

RT : WZ :: AC : _____

Options :

1. ✓ RU
2. ✗ PW
3. ✗ EM
4. ✗ WX

Question Number : 9 Question Id : 54592722835 Question Type : MCQ Option Shuffling : Yes
Correct Marks : 1 Wrong Marks : 0.25

निम्नलिखित प्रश्न में दिए गए विकल्पों में से सम्बन्धित अक्षर/शब्द/संख्या को चुनिए।

RT : WZ :: AC : _____

Options :

1. ✓ RU
2. ✗ PW
3. ✗ EM
4. ✗ WX

Question Number : 10 Question Id : 54592722836 Question Type : MCQ Option Shuffling : Yes
Correct Marks : 1 Wrong Marks : 0.25

In a certain code language, if SAW = 86 and GROW = 126, then GAP =?

Options :

1. ✗ 53
2. ✓ 48

3. ✖ 75

4. ✖ 56

Question Number : 10 Question Id : 54592722836 Question Type : MCQ Option Shuffling : Yes

Correct Marks : 1 Wrong Marks : 0.25

एक निश्चित कूट भाषा में, यदि SAW = 86 और GROW = 126, तो GAP =?

Options :

1. ✖ 53

2. ✔ 48

3. ✖ 75

4. ✖ 56

Question Number : 11 Question Id : 54592722837 Question Type : MCQ Option Shuffling : Yes

Correct Marks : 1 Wrong Marks : 0.25

If 'Macto folc bing' means Smoother than petals, 'bing rahb notp' means Beautiful petals fragrance and 'notp dofg folc' means Beautiful than happy. What would 'fragrance' stand for in that language?

Options :

1. ✖ notp

2. ✔ rahb

3. ✖ bing

4. ✖ Macto

Question Number : 11 Question Id : 54592722837 Question Type : MCQ Option Shuffling : Yes

Correct Marks : 1 Wrong Marks : 0.25

यदि 'Macto folc bing' का अर्थ है Smoother than petals, 'bing rahb notp' का अर्थ है Beautiful petals fragrance और 'notp dofg folc' का अर्थ है Beautiful than happy. उस भाषा में 'fragrance' का अर्थ क्या होगा?

Options :

1. ✖ notp
2. ✔ rahb
3. ✖ bing
4. ✖ Macto

Question Number : 12 Question Id : 54592722838 Question Type : MCQ Option Shuffling : Yes
Correct Marks : 1 Wrong Marks : 0.25

In the following question, a group of letters is given which are numbered 1, 2, 3, 4, 5 and 6. Below are given four alternatives containing combinations of these numbers. Select that combination of numbers so that letters arranged accordingly, form a meaningful word.

O S R H A B

1 2 3 4 5 6

Options :

1. ✖ 4, 6, 3, 5, 2, 1
2. ✔ 5, 6, 4, 1, 3, 2
3. ✖ 4, 6, 5, 2, 3, 1
4. ✖ 5, 2, 3, 1, 6, 4

Question Number : 12 Question Id : 54592722838 Question Type : MCQ Option Shuffling : Yes
Correct Marks : 1 Wrong Marks : 0.25

निम्नलिखित प्रश्न में, अक्षरों का एक समूह दिया गया है , संख्या 1, 2, 3, 4, 5 और 6 नीचे दिए गए हैं, इन संख्याओं के संयोजन वाले चार विकल्प दिए गए हैं। संख्याओं के उस संयोजन का चयन करें ताकि जब उसके अनुसार अक्षरों को संयोजित किया जाये तो एक अर्थपूर्ण शब्द बने।

O S R H A B

1 2 3 4 5 6

Options :

1. ✖ 4, 6, 3, 5, 2, 1
2. ✔ 5, 6, 4, 1, 3, 2
3. ✖ 4, 6, 5, 2, 3, 1
4. ✖ 5, 2, 3, 1, 6, 4

Question Number : 13 Question Id : 54592722839 Question Type : MCQ Option Shuffling : Yes
Correct Marks : 1 Wrong Marks : 0.25

L, M, N, O and P sit around a circular table facing the centre. N sits next to L and P. O sits next to M and P. If the positions of M and P are interchanged, who sits next to L?

Options :

1. ✔ N, P
2. ✖ N, M
3. ✖ P, O
4. ✖ O, M

Question Number : 13 Question Id : 54592722839 Question Type : MCQ Option Shuffling : Yes
Correct Marks : 1 Wrong Marks : 0.25

L, M, N, O और P एक गोलाकार टेबल के चारों ओर बैठते हैं जो केंद्र की ओर है। N, L और P के निकट बैठता है। O, M और P का पड़ोसी है। यदि M और P अपने स्थान आपस में बदल लेते हैं, तो L के निकटवर्ती में कौन बैठता है?

Options :

1. ✓ N, P
2. ✗ N, M
3. ✗ P, O
4. ✗ O, M

Question Number : 14 Question Id : 54592722840 Question Type : MCQ Option Shuffling : Yes
Correct Marks : 1 Wrong Marks : 0.25

Among five girls, Varsha is heavier than Manisha, but not as heavy as Rashmi. Jyoti is heavier than Diksha but lighter than Manisha. Who is the heaviest in their group?

Options :

1. ✗ Jyoti
2. ✓ Rashmi
3. ✗ Diksha
4. ✗ Varsha

Question Number : 14 Question Id : 54592722840 Question Type : MCQ Option Shuffling : Yes
Correct Marks : 1 Wrong Marks : 0.25

पांच लड़कियों में, वर्षा, मनीषा से भारी है, लेकिन रश्मि जितनी भारी नहीं है। ज्योति, दीक्षा से भारी लेकिन मनीषा से हल्की है। उनके समूह में सबसे भारी कौन है?

Options :

1. ✗ ज्योति
2. ✓ रश्मि

3. ✖ दीक्षा

4. ✖ वर्षा

Question Number : 15 Question Id : 54592722841 Question Type : MCQ Option Shuffling : Yes

Correct Marks : 1 Wrong Marks : 0.25

Each of the five buildings A, B, C, D and E is painted in a different colour among red, blue, violet, orange and white, not necessarily in the same order. Building A is not painted in red and D is not painted in violet or white. Building B is painted blue and C is painted orange. What is the colour in which building E is painted?

Options :

1. ✖ Violet

2. ✖ White

3. ✖ Orange

4. ✔ Cannot be determined

Question Number : 15 Question Id : 54592722841 Question Type : MCQ Option Shuffling : Yes

Correct Marks : 1 Wrong Marks : 0.25

पांच इमारतों में से प्रत्येक A, B, C, D और E को लाल, नीले, बैंगनी, नारंगी और सफेद रंग के बीच एक अलग रंग में चित्रित किया गया है, जरूरी नहीं कि एक ही क्रम में हो। इमारत A को लाल रंग में नहीं रंगा गया है और D को बैंगनी या सफेद रंग में नहीं रंगा गया है। बिल्डिंग B को नीला और C को नारंगी रंग दिया गया है। इमारत E को किस रंग में रंगा गया है?

Options :

1. ✖ बैंगनी

2. ✖ सफेद

3. ✖ नारंगी

4. ✓ निर्धारित नहीं किया जा सकता है

Question Number : 16 Question Id : 54592722842 Question Type : MCQ Option Shuffling : Yes
Correct Marks : 1 Wrong Marks : 0.25

Pihu and Chikku were fighting for the caps, so their teacher equally divided three red caps, two yellow caps and one blue cap among them. None of them should be given all the caps of the same colour. Pihu should be given the blue cap. In how many ways the caps can be divided?

Options :

1. ✖ 5
2. ✓ 2
3. ✖ 3
4. ✖ 7

Question Number : 16 Question Id : 54592722842 Question Type : MCQ Option Shuffling : Yes
Correct Marks : 1 Wrong Marks : 0.25

पिहू और चिक्कू कैप के लिए लड़ रहे थे, इसलिए उनके शिक्षक ने तीन लाल टोपी, दो पीले रंग की टोपी और एक नीली टोपी को समान रूप से विभाजित किया। उनमें से किसी को भी एक ही रंग के सभी कैप नहीं दिए जाने चाहिए। पिहू को नीली टोपी दी जानी चाहिए। कैप को कितने तरीकों से विभाजित किया जा सकता है?

Options :

1. ✖ 5
2. ✓ 2
3. ✖ 3
4. ✖ 7

Question Number : 17 Question Id : 54592722843 Question Type : MCQ Option Shuffling : Yes
Correct Marks : 1 Wrong Marks : 0.25

Pointing to a girl, Komal said “She is the only daughter of my grandfather’s only child”. How is the girl related to Komal?

Options :

1. ✖ Daughter
2. ✖ Niece
3. ✖ Sister
4. ✔ Data inadequate

Question Number : 17 Question Id : 54592722843 Question Type : MCQ Option Shuffling : Yes

Correct Marks : 1 Wrong Marks : 0.25

एक लड़की की तरफ इशारा करते हुए कोमल कहती है कि 'यह मेरे दादाजी/नानाजी के इकलौते बच्चे की इकलौती बेटी है'। वह लड़की कोमल से किस प्रकार संबंधित हैं?

Options :

1. ✖ पुत्री
2. ✖ भतीजी/भांजी
3. ✖ बहन
4. ✔ डाटा अपर्याप्त

Question Number : 18 Question Id : 54592722844 Question Type : MCQ Option Shuffling : Yes

Correct Marks : 1 Wrong Marks : 0.25

In the question below, there are three statements followed by two conclusions. You have to take the given statements to be true even if they seem to be at variance with commonly known facts and then decide which of the given conclusion logically follow(s) from the given statements.

Statements:

- I. Some boxes are dogs.
- II. All dogs are pens.
- III. All pens are books.

Conclusions:

- I. Some boxes are pens.
- II. Some books are dogs.

Options :

- 1. ✖ only conclusion I follows
- 2. ✖ only conclusion II follows
- 3. ✖ either conclusion I or II follows
- 4. ✔ Both the conclusions follows

नीचे दिए गए प्रश्न में तीन कथन और उसके बाद दो निष्कर्ष दिए गए हैं। आपको दिए गए कथनों को सत्य मानना है भले ही वे सर्वज्ञात तथ्यों से भिन्न प्रतीत होते हों। सभी निष्कर्षों को पढ़िए फिर तय कीजिए कि दिए गए निष्कर्षों में से कौन सा तर्कसंगत रूप से अनुसरण करता है, चाहे सर्वज्ञात तथ्य कुछ भी हों।

कथन:

- I. कुछ बक्से, कुत्ते हैं।
- II. सभी कुत्ते, पेन हैं।
- III. सभी पेन, किताबें हैं।

निष्कर्ष:

- I. कुछ बक्से, पेन हैं।
- II. कुछ किताबें, कुत्ते हैं।

Options :

1. * केवल निष्कर्ष I अनुसरण करता है
2. * केवल निष्कर्ष II अनुसरण करता है
3. * या तो निष्कर्ष I या II अनुसरण करता है
4. ✓ दोनों निष्कर्ष अनुसरण नहीं करते हैं

Question Number : 19 Question Id : 54592722845 Question Type : MCQ Option Shuffling : Yes

Correct Marks : 1 Wrong Marks : 0.25

In the following question, there is a statement followed by two courses of action, numbered I and II. You have to assume everything in the statement to be true to decide which of the two suggested courses of action logically follows for pursuing

Statement:

Terrorism in Jammu and Kashmir is increasing.

Course of actions:

I. Hand Jammu and Kashmir over to Indian Army.

II. Announce curfew in the state.

Options :

1. ✖ Only I follows
2. ✖ Only II follows
3. ✖ Either I or II follows
4. ✔ Neither I nor II follows

Question Number : 19 Question Id : 54592722845 Question Type : MCQ Option Shuffling : Yes

Correct Marks : 1 Wrong Marks : 0.25

निम्नलिखित प्रश्न में, एक कथन के बाद दो कार्यवाही । और ॥ है। आपको इस कथन को सत्य मान कर तय करना है की दी गयी दो कार्यवाही में से कौन सा तार्किक रूप से सही है।

कथन:

जम्मू-कश्मीर में आतंकवाद बढ़ रहा है।

कार्यवाही:

- I. जम्मू और कश्मीर को भारतीय सेना को सौंप दें।
- II. राज्य में कर्फ्यू की घोषणा।

Options :

1. * केवल I अनुसरण करता है
2. * केवल II अनुसरण करता है
3. * या तो I या II अनुसरण करता है
4. ✓ न तो I और न ही II अनुसरण करता है

Question Number : 20 Question Id : 54592722846 Question Type : MCQ Option Shuffling : Yes

Correct Marks : 1 Wrong Marks : 0.25

Complete the following series-

51, 172, 294, 417, ?

Options :

1. * 544
2. ✓ 541
3. * 538
4. * 558

Question Number : 20 Question Id : 54592722846 Question Type : MCQ Option Shuffling : Yes

Correct Marks : 1 Wrong Marks : 0.25

निम्नलिखित श्रृंखला को पूरा करें-

51, 172, 294 , 417, ?

Options :

- 1. ✖ 544
- 2. ✔ 541
- 3. ✖ 538
- 4. ✖ 558

Mental Ability2

Group Number :	2
Group Id :	5459271132
Group Maximum Duration :	0
Group Minimum Duration :	0
Show Attended Group? :	No
Edit Attended Group? :	No
Break time:	0
Group Marks:	20
Is this Group for Examiner?:	No
Revisit allowed for group Instructions? :	Yes
Maximum Instruction Time:	0
Minimum Instruction Time:	0

Mental Ability2

Section Id :	5459271132
Section Number :	1
Section type :	Online
Mandatory or Optional:	Mandatory
Number of Questions:	20
Number of Questions to be attempted:	20
Section Marks:	20

Sub-Section Number:	1
Sub-Section Id:	5459271358
Question Shuffling Allowed :	Yes

Question Number : 21 Question Id : 54592722847 Question Type : MCQ Option Shuffling : Yes
Correct Marks : 1 Wrong Marks : 0.25

Find the wrong term in the given series:

140, 121, 100, 81, 64

Options :

1. ✓ 140

2. ✗ 121

3. ✗ 100

4. ✗ 81

Question Number : 21 Question Id : 54592722847 Question Type : MCQ Option Shuffling : Yes
Correct Marks : 1 Wrong Marks : 0.25

दी गई श्रृंखला में गलत पद ज्ञात करें:

140, 121, 100, 81, 64

Options :

1. ✓ 140

2. ✗ 121

3. ✗ 100

4. ✗ 81

Question Number : 22 Question Id : 54592722848 Question Type : MCQ Option Shuffling : Yes
Correct Marks : 1 Wrong Marks : 0.25

Choose the odd one from the given options:

Options :

1. ✓ 638

2. ✗ 426

3. ✗ 852

4. ✗ 750

Question Number : 22 Question Id : 54592722848 Question Type : MCQ Option Shuffling : Yes
Correct Marks : 1 Wrong Marks : 0.25

दिए गए विकल्पों में से विषम संख्या को चुनें।

Options :

1. ✓ 638
2. ✗ 426
3. ✗ 852
4. ✗ 750

Question Number : 23 Question Id : 54592722849 Question Type : MCQ Option Shuffling : Yes
Correct Marks : 1 Wrong Marks : 0.25

Choose the odd numeral pair/group in each of the following questions :

Options :

1. ✗ 54 : 67
2. ✗ 29 : 42
3. ✗ 36 : 49
4. ✓ 48 : 57

Question Number : 23 Question Id : 54592722849 Question Type : MCQ Option Shuffling : Yes
Correct Marks : 1 Wrong Marks : 0.25

निम्नलिखित में से प्रत्येक में विषम अंक जोड़ी / समूह को चुनिए

Options :

1. ✗ 54 : 67
2. ✗ 29 : 42
3. ✗ 36 : 49
4. ✓ 48 : 57

Question Number : 24 Question Id : 54592722850 Question Type : MCQ Option Shuffling : Yes
Correct Marks : 1 Wrong Marks : 0.25

Choose the odd numeral pair/group in each of the following questions :

Options :

1. ✖ 7, 14, 28
2. ✖ 5, 10, 20
3. ✖ 15, 30, 60
4. ✔ 10 , 20 , 30

Question Number : 24 Question Id : 54592722850 Question Type : MCQ Option Shuffling : Yes
Correct Marks : 1 Wrong Marks : 0.25

निम्नलिखित में से प्रत्येक में विषम अंक जोड़ी / समूह को चुनिए

Options :

1. ✖ 7, 14, 28
2. ✖ 5, 10, 20
3. ✖ 15, 30, 60
4. ✔ 10 , 20 , 30

Question Number : 25 Question Id : 54592722851 Question Type : MCQ Option Shuffling : Yes
Correct Marks : 1 Wrong Marks : 0.25

In the following question, select the related letter/word/number from the given alternatives.

(49, 81, 121)

Options :

1. ✖ (9, 36, 49)
2. ✔ (9, 25, 49)
3. ✖ (49, 25, 9)
4. ✖ (16, 36, 49)

Question Number : 25 Question Id : 54592722851 Question Type : MCQ Option Shuffling : Yes
Correct Marks : 1 Wrong Marks : 0.25

निम्नलिखित प्रश्न में, दिए गए विकल्पों में से संबंधित अक्षर / शब्द / संख्या को चुनिए।

(49, 81, 121)

Options :

1. ✖ (9, 36, 49)

2. ✔ (9, 25, 49)

3. ✖ (49, 25, 9)

4. ✖ (16, 36, 49)

Question Number : 26 Question Id : 54592722852 Question Type : MCQ Option Shuffling : Yes
Correct Marks : 1 Wrong Marks : 0.25

Find the missing term?



Options :

1. ✔ 918

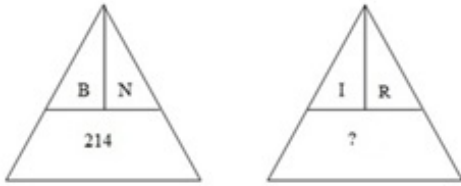
2. ✖ 1024

3. ✖ 1121

4. ✖ 821

Question Number : 26 Question Id : 54592722852 Question Type : MCQ Option Shuffling : Yes
Correct Marks : 1 Wrong Marks : 0.25

लुप्त संख्या ज्ञात कीजिये?



Options :

1. ✓ 918
2. ✗ 1024
3. ✗ 1121
4. ✗ 821

Question Number : 27 Question Id : 54592722853 Question Type : MCQ Option Shuffling : Yes

Correct Marks : 1 Wrong Marks : 0.25

If (-) means (x), (x) means (+), (+) means (÷) and (÷) means (-), then $5 \times 18 + 3 - 4 \div 9 = ?$

Options :

1. ✗ 23
2. ✗ 24
3. ✗ 40
4. ✓ 20

Question Number : 27 Question Id : 54592722853 Question Type : MCQ Option Shuffling : Yes

Correct Marks : 1 Wrong Marks : 0.25

यदि (-) का अर्थ (x), (x) का अर्थ (+), (+) का अर्थ (÷), (÷) का अर्थ है (-), तो $5 \times 18 + 3 - 4 \div 9 = ?$

Options :

1. ✗ 23
2. ✗ 24
3. ✗ 40

4. ✓ 20

Question Number : 28 Question Id : 54592722854 Question Type : MCQ Option Shuffling : Yes

Correct Marks : 1 Wrong Marks : 0.25

In the question given below, there is a statement followed by two conclusions. You have to take the given statement to be true even if they seem to be at variance with commonly known facts and then decide which of the given conclusion logically follow(s) from the given statement.

Statements: $Y = P, P \leq F, F \geq L, L = K$ **Conclusions:**I. $F = K$ II. $F > K$

Options :

1. ✖ only Conclusion I follows
2. ✖ only Conclusion II follows
3. ✓ either Conclusion I or II follows
4. ✖ neither Conclusion I nor II follows

Question Number : 28 Question Id : 54592722854 Question Type : MCQ Option Shuffling : Yes

Correct Marks : 1 Wrong Marks : 0.25

नीचे दिए गए प्रश्न में, एक कथन के बाद दो निष्कर्ष दिए गए हैं। आपको दिए गए कथन को सत्य मानना है, भले ही वे आम तौर पर ज्ञात तथ्यों के साथ विचरण करते हों और फिर तय करें कि दिए गए कथन में से कौन सा निष्कर्ष तार्किक रूप से अनुसरण करता है।

कथन:

$$Y = P, P \leq F, F \geq L, L = K$$

निष्कर्ष:

I. $F = K$

II. $F > K$

Options :

1. * केवल निष्कर्ष I अनुसरण करता है
2. * केवल निष्कर्ष II अनुसरण करता है
3. ✓ या तो निष्कर्ष I या II अनुसरण करता है
4. * न तो निष्कर्ष I और न ही II अनुसरण करता है

Question Number : 29 Question Id : 54592722855 Question Type : MCQ Option Shuffling : Yes

Correct Marks : 1 Wrong Marks : 0.25

In the following question, select the related letter/word/number from the given alternatives.

(25, 45, 55)

Options :

1. ✓ (40, 72, 88)
2. * (40, 72, 86)
3. * (40, 75, 88)
4. * (40, 75, 82)

Question Number : 29 Question Id : 54592722855 Question Type : MCQ Option Shuffling : Yes

Correct Marks : 1 Wrong Marks : 0.25

निम्नलिखित प्रश्न में दिए गए विकल्पों में से सम्बन्धित अक्षर/शब्द/संख्या को चुनिए।

(25, 45, 55)

Options :

1. ✓ (40, 72, 88)
2. ✗ (40, 72, 86)
3. ✗ (40, 75, 88)
4. ✗ (40, 75, 82)

Question Number : 30 Question Id : 54592722856 Question Type : MCQ Option Shuffling : Yes

Correct Marks : 1 Wrong Marks : 0.25

Which of the following diagrams best represents a relationship among Administrator, Doctor and Author?

Options :

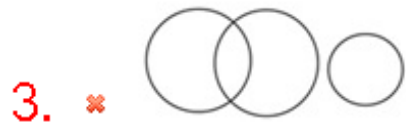


Question Number : 30 Question Id : 54592722856 Question Type : MCQ Option Shuffling : Yes

Correct Marks : 1 Wrong Marks : 0.25

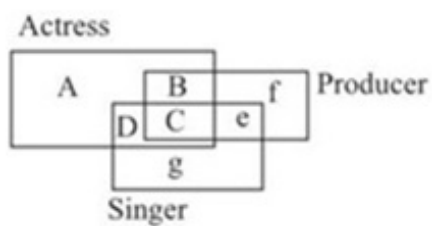
निम्नलिखित में से कौन सा चित्र प्रबंधक, डॉक्टर और लेखक के बीच संबंध का प्रतिनिधित्व करता है?

Options :



Question Number : 31 Question Id : 54592722857 Question Type : MCQ Option Shuffling : Yes
Correct Marks : 1 Wrong Marks : 0.25

Which one of the following represents Actress who are Singer but not Producer?



Options :

1. ✖ B

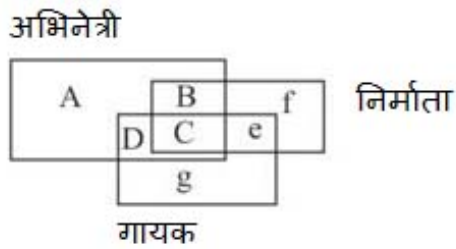
2. ✖ E

3. ✔ D

4. ✖ F

Question Number : 31 Question Id : 54592722857 Question Type : MCQ Option Shuffling : Yes
Correct Marks : 1 Wrong Marks : 0.25

निम्नलिखित में से कौन अभिनेत्री का प्रतिनिधित्व करता है जो गायक हैं लेकिन निर्माता नहीं हैं?



Options :

1. ✖ B
2. ✖ E
3. ✔ D
4. ✖ F

Question Number : 32 Question Id : 54592722858 Question Type : MCQ Option Shuffling : Yes
Correct Marks : 1 Wrong Marks : 0.25

Complete the series by choosing right figure from the given choices.

Problem Figures



Options :



1. ✖



Question Number : 32 Question Id : 54592722858 Question Type : MCQ Option Shuffling : Yes

Correct Marks : 1 Wrong Marks : 0.25

दिए गए विकल्पों में से सही उत्तर चुनकर श्रृंखला को पूरा करें।

प्रश्न आकृति



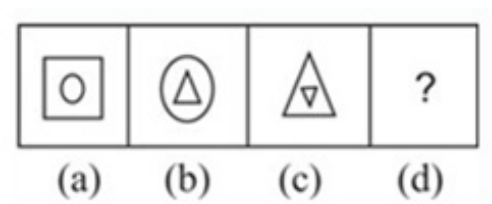
Options :





Question Number : 33 Question Id : 54592722859 Question Type : MCQ Option Shuffling : Yes
Correct Marks : 1 Wrong Marks : 0.25

Complete the series by choosing right figure from the given choices.

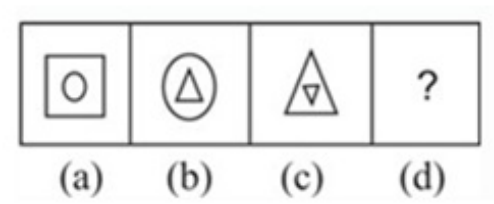


Options :



Question Number : 33 Question Id : 54592722859 Question Type : MCQ Option Shuffling : Yes
Correct Marks : 1 Wrong Marks : 0.25

दिए गए विकल्पों में से सही उत्तर चुनकर श्रृंखला को पूरा करें।



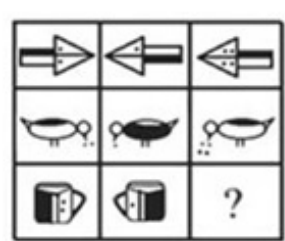
Options :



Question Number : 34 Question Id : 54592722860 Question Type : MCQ Option Shuffling : Yes

Correct Marks : 1 Wrong Marks : 0.25

Find the missing figure in the given matrix.



Options :

1. ✓ 









2. ✗ 

3. ✗ 

4. ✗ 

Question Number : 34 Question Id : 54592722860 Question Type : MCQ Option Shuffling : Yes
Correct Marks : 1 Wrong Marks : 0.25

दिए गए मैट्रिक्स में लुप्त आकृति ज्ञात कीजिए।

		
		
		?

Options :

1. ✓ 

2. ✗ 



Question Number : 35 Question Id : 54592722861 Question Type : MCQ Option Shuffling : Yes
Correct Marks : 1 Wrong Marks : 0.25

Three of the four figures are insequence or similar to each other in some way. You have to choose the figure which is odd /different:

Note: For this question, discrepancy is found in question/answer. So,this question is ignored for all candidates.

Options :



Question Number : 35 Question Id : 54592722861 Question Type : MCQ Option Shuffling : Yes
Correct Marks : 1 Wrong Marks : 0.25

निम्नलिखित चार में से तीन आकृति किसी न किसी रूप में समान या क्रम में हैं। आपको वह आकृति चुननी होगी जो विषम / भिन्न हो:

Note: For this question, discrepancy is found in question/answer. So, this question is ignored for all candidates.

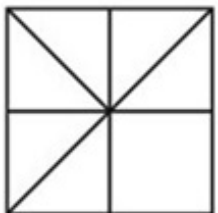
Options :



Question Number : 36 Question Id : 54592722862 Question Type : MCQ Option Shuffling : Yes

Correct Marks : 1 Wrong Marks : 0.25

How many triangles are there in the figure given below?



Options :

1. ✖ 8

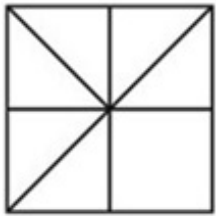
2. ✓ 10

3. ✗ 12

4. ✗ 11

Question Number : 36 Question Id : 54592722862 Question Type : MCQ Option Shuffling : Yes
Correct Marks : 1 Wrong Marks : 0.25

नीचे दी गई आकृति में कितनी त्रिभुज हैं?



Options :

1. ✗ 8

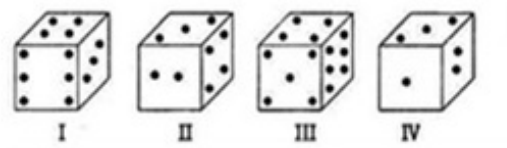
2. ✓ 10

3. ✗ 12

4. ✗ 11

Question Number : 37 Question Id : 54592722863 Question Type : MCQ Option Shuffling : Yes
Correct Marks : 1 Wrong Marks : 0.25

From the four positions given of a single dice, find the number of dots at the face opposite to the face having 5 dots.



Options :

1. ✗ 2

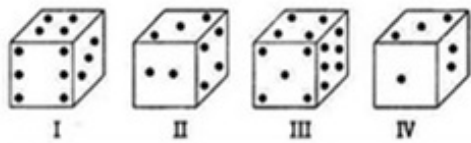
2. ✗ 4

3. ✓ 3

4. ✗ 6

Question Number : 37 Question Id : 54592722863 Question Type : MCQ Option Shuffling : Yes
Correct Marks : 1 Wrong Marks : 0.25

एक ही पासा के दिए गए चार विकल्पों में से, 5 बिंदु वाले फलक के विपरीत फलक पर बिंदुओं की संख्या ज्ञात कीजिए।



Options :

1. ✖ 2
2. ✖ 4
3. ✔ 3
4. ✖ 6

Question Number : 38 Question Id : 54592722864 Question Type : MCQ Option Shuffling : Yes
Correct Marks : 1 Wrong Marks : 0.25

In the given question find the answer figure in which question figure is embedded.



Options :

1. ✖
2. ✖



Question Number : 38 Question Id : 54592722864 Question Type : MCQ Option Shuffling : Yes
Correct Marks : 1 Wrong Marks : 0.25

दिए गए प्रश्न में उत्तर आकृति ज्ञात कीजिए जिसमें प्रश्न आकृति सन्निहित है।

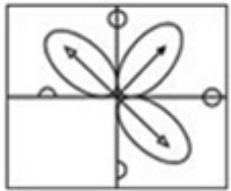


Options :



Question Number : 39 Question Id : 54592722865 Question Type : MCQ Option Shuffling : Yes
Correct Marks : 1 Wrong Marks : 0.25

Which answer figure will complete the pattern in the question figure?




Options :



Question Number : 39 Question Id : 54592722865 Question Type : MCQ Option Shuffling : Yes
Correct Marks : 1 Wrong Marks : 0.25

कौन सी उत्तर आकृति प्रश्न आकृति में पैटर्न को पूरा करेगी?



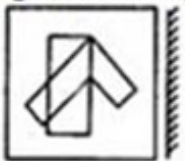
Options :



Question Number : 40 Question Id : 54592722866 Question Type : MCQ Option Shuffling : Yes
Correct Marks : 1 Wrong Marks : 0.25

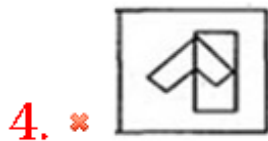
Which of the following choices is the exact mirror image of the main figure?

Question Figure



Options :





Question Number : 40 Question Id : 54592722866 Question Type : MCQ Option Shuffling : Yes
Correct Marks : 1 Wrong Marks : 0.25

निम्नलिखित में से कौन सा विकल्प मुख्य आकृति की सटीक दर्पण छवि है?

प्रश्न आकृति



Options :



4.

✖



General Awareness1

Group Number :	3
Group Id :	5459271133
Group Maximum Duration :	0
Group Minimum Duration :	0
Show Attended Group? :	No
Edit Attended Group? :	No
Break time:	0
Group Marks:	20
Is this Group for Examiner?:	No
Revisit allowed for group Instructions? :	Yes
Maximum Instruction Time:	0
Minimum Instruction Time:	0

General Awareness1

Section Id :	5459271133
Section Number :	1
Section type :	Online
Mandatory or Optional:	Mandatory
Number of Questions:	20
Number of Questions to be attempted:	20
Section Marks:	20

Sub-Section Number:	1
Sub-Section Id:	5459271359
Question Shuffling Allowed :	Yes

Question Number : 41 Question Id : 54592722867 Question Type : MCQ Option Shuffling : Yes
Correct Marks : 1 Wrong Marks : 0.25

Match the following important terms of Indian Classical dances and their meanings:

1. Tandava - i. moods and emotions,
2. Lasya - ii. Heroic, bold, vigorous and masculine classification of dance,
3. Vachika - iii. Soft, lyrical, graceful and feminine classification of dance,
4. Satvika - iv. Song and speech

Use the code to give the correct answer.

Options :

1. ✖ 1(iii), 2(i), 3(iv), 4(ii)
2. ✖ 1(i), 2(ii), 3(iv), 4(iii)
3. ✔ 1(ii), 2(iii), 3(iv), 4(i)
4. ✖ 1(ii), 2(iii), 3(i), 4(iv)

Question Number : 41 Question Id : 54592722867 Question Type : MCQ Option Shuffling : Yes
Correct Marks : 1 Wrong Marks : 0.25

भारतीय शास्त्रीय नृत्यों के निम्नलिखित महत्वपूर्ण शब्दों और उनके अर्थों का मिलान करें,

1. तांडव - i. भावों और अभिव्यक्तियों,
2. लास्य - ii. पुरुषोचित, वीरोचित, निर्भीक और ओजस्वी नृत्य का वर्ग,
3. वाचि - iii. स्त्रीयोचित, कोमल लयात्मक और सुंदर नृत्य का वर्ग,
4. सात्वि - iv. संगीत एवं कथन

दिए गए कूट का उपयोग कर सही उत्तर दें।

Options :

1. ✖ 1(iii), 2(i), 3(iv), 4(ii)
2. ✖ 1(i), 2(ii), 3(iv), 4(iii)
3. ✔ 1(ii), 2(iii), 3(iv), 4(i)
4. ✖ 1(ii), 2(iii), 3(i), 4(iv)

Question Number : 42 Question Id : 54592722868 Question Type : MCQ Option Shuffling : Yes
Correct Marks : 1 Wrong Marks : 0.25

Consider the following statements regarding an Indian festival,

- i. It is mainly celebrated in Punjab by the Punjabis,
- ii. This festival is also called the harvest festival of Punjab,

Which of the following festivals is being talked about?

Options :

1. ✖ Chhat Puja
2. ✔ Lohri
3. ✖ Ugadi
4. ✖ Bihu

Question Number : 42 Question Id : 54592722868 Question Type : MCQ Option Shuffling : Yes
Correct Marks : 1 Wrong Marks : 0.25

एक भारतीय त्योहार के संबंध में निम्नलिखित कथनों पर विचार करें,

- i. यह मुख्य रूप से पंजाब में पंजाबियों द्वारा मनाया जाता है,
- ii. इस त्यौहार को पंजाब का फसल त्यौहार भी कहा जाता है,

निम्नलिखित त्योहारों में से किसके बारे में बात की जा रही है?

Options :

1. ✖ छट पूजा
2. ✔ लोहड़ी
3. ✖ उगादी
4. ✖ बिहू

Question Number : 43 Question Id : 54592722869 Question Type : MCQ Option Shuffling : Yes
Correct Marks : 1 Wrong Marks : 0.25

The (i)_____ is one of the finest monuments situated in (ii)_____.

Options :

1. ✔ (i) Gingee Fort (ii) Puducherry
2. ✖ (i) HawaMahal (ii) Chennai
3. ✖ (i) Charminar (ii) Kolkata
4. ✖ (i) Purana Qila (ii) Bengaluru

Question Number : 43 Question Id : 54592722869 Question Type : MCQ Option Shuffling : Yes
Correct Marks : 1 Wrong Marks : 0.25

(i)_____, (ii)_____ में स्थित उत्कृष्टतम स्मारकों में से एक है।

Options :

1. ✔ (i) जिंजी किला (ii) पुडुचेरी
2. ✖ (i) हवा महल (ii) चेन्नई
3. ✖ (i) चारमीनार (ii) कोलकाता
4. ✖ (i) पुराना किला (ii) बेंगलुरु

Question Number : 44 Question Id : 54592722870 Question Type : MCQ Option Shuffling : Yes
Correct Marks : 1 Wrong Marks : 0.25

The Bhatiali is a folk music of _____.

Options :

1. ✖ Gujarat
2. ✖ Maharashtra
3. ✔ West Bengal

4. ✖ Tamil Nadu

Question Number : 44 Question Id : 54592722870 Question Type : MCQ Option Shuffling : Yes
Correct Marks : 1 Wrong Marks : 0.25

भटियाली _____ का लोक संगीत है।

Options :

1. ✖ गुजरात
2. ✖ महाराष्ट्र
3. ✔ पश्चिम बंगाल
4. ✖ तमिलनाडु

Question Number : 45 Question Id : 54592722871 Question Type : MCQ Option Shuffling : Yes
Correct Marks : 1 Wrong Marks : 0.25

What should be done by the RBI to control inflation in the market?

- i. Increase the Repo Rate,
- ii. Increase the Reverse Repo Rate,
- iii. Increase the Bank Rate

Use the codes to give the correct answer.

Options :

1. ✖ Only i and ii
2. ✖ Only ii and iii
3. ✖ Only i and iii
4. ✔ i, ii and iii

Question Number : 45 Question Id : 54592722871 Question Type : MCQ Option Shuffling : Yes
Correct Marks : 1 Wrong Marks : 0.25

बाजार में मुद्रास्फीति को नियंत्रित करने के लिए भारतीय रिज़र्व बैंक द्वारा क्या किया जाना चाहिए?

- i. रेपो रेट बढ़ाएं,
- ii. रिवर्स रेपो रेट बढ़ाएं,
- iii. बैंक दर बढ़ाएं

कूट का प्रयोग कर सही उत्तर दें।

Options :

- 1. ✖ केवल i और ii
- 2. ✖ केवल ii और iii
- 3. ✖ केवल i और iii
- 4. ✔ i, ii और iii

Question Number : 46 Question Id : 54592722872 Question Type : MCQ Option Shuffling : Yes

Correct Marks : 1 Wrong Marks : 0.25

Which of the following is a part of the fiscal policy of the government?

- i. Supervising the banks,
- ii. Deciding the taxes

Use the codes to give the correct answer.

Options :

- 1. ✖ Only i
- 2. ✔ Only ii
- 3. ✖ Both i and ii

4. ✖ Neither i nor ii

Question Number : 46 Question Id : 54592722872 Question Type : MCQ Option Shuffling : Yes
Correct Marks : 1 Wrong Marks : 0.25

निम्नलिखित में से क्या सरकार की राजकोषीय नीति का एक हिस्सा है?

- i. बैंकों का पर्यवेक्षण,
- ii. कर तय करना

सही उत्तर देने के लिए कूट का उपयोग करें।

Options :

- 1. ✖ केवल i
- 2. ✔ केवल ii
- 3. ✖ i और ii दोनों
- 4. ✖ न तो i और न ही ii

Question Number : 47 Question Id : 54592722873 Question Type : MCQ Option Shuffling : Yes
Correct Marks : 1 Wrong Marks : 0.25

Which of the following organizations make recommendations on the decision of MSP?

Options :

- 1. ✖ Ministry of Finance
- 2. ✖ CSO
- 3. ✔ CACP
- 4. ✖ Both CSO and Ministry of Finance

Question Number : 47 Question Id : 54592722873 Question Type : MCQ Option Shuffling : Yes
Correct Marks : 1 Wrong Marks : 0.25

निम्नलिखित में से कौन सा संगठन एमएसपी के निर्णय पर सिफारिशें देता है?

Options :

1. ✖ वित्त मंत्रालय
2. ✖ सी.एस.ओ. (CSO)
3. ✔ सी.ए.सी.पी. (CACP)
4. ✖ सी.एस.ओ. और वित्त मंत्रालय दोनों

Question Number : 48 Question Id : 54592722874 Question Type : MCQ Option Shuffling : Yes
Correct Marks : 1 Wrong Marks : 0.25

Which of the following is/are included in the process of sanitation?

- i. Safe management of human excreta from the toilet,
- ii. Safe management of solid waste and animal waste

Use the code to give the correct answer.

Options :

1. ✖ Only i
2. ✖ Only ii
3. ✔ Both i and ii
4. ✖ Neither i nor ii

Question Number : 48 Question Id : 54592722874 Question Type : MCQ Option Shuffling : Yes
Correct Marks : 1 Wrong Marks : 0.25

निम्नलिखित में से क्या स्वच्छता की प्रक्रिया में उपस्थित है?

- i. शौचालय से मानव मलमूत्र का सुरक्षित प्रबंधन,
- ii. ठोस अपशिष्ट और जानवरों के अपशिष्ट का सुरक्षित प्रबंधन

सही उत्तर देने के लिए कूट का उपयोग करें।

Options :

- 1. ✖ केवल i
- 2. ✖ केवल ii
- 3. ✔ i और ii दोनों
- 4. ✖ न तो i और न ही ii

Question Number : 49 Question Id : 54592722875 Question Type : MCQ Option Shuffling : Yes

Correct Marks : 1 Wrong Marks : 0.25

Which of the following statements is incorrect with regard to the reverse osmosis process of purifying water?

Options :

- 1. ✖ This process can be used for desalination of sea-water
- 2. ✖ A film of cellulose acetate is generally used as the workable porous membrane in this process
- 3. ✔ The process of osmosis, if started cannot be reversed.
- 4. ✖ A variety of polymer membranes can be used as membranes in this process

Question Number : 49 Question Id : 54592722875 Question Type : MCQ Option Shuffling : Yes

Correct Marks : 1 Wrong Marks : 0.25

निम्नलिखित में से कौन सा कथन पानी शोधन की प्रतिलोम परासरणप्रक्रिया के संबंध में गलत है?

Options :

1. * इस प्रक्रिया का उपयोग समुद्री जल के विलवणीकरण में किया जाता है
2. * इसके लिए उपयुक्त अर्धपारगम्य झिल्ली के रूप में सामान्यतः सेलूलोस ऐसीटेट की फिल्मका उपयोग किया जाता है
3. ✓ प्रतिलोम परासरण की प्रक्रिया यदि आरम्भ हो जाए तो उसकी दिशा को परिवर्तित नहीं किया जा सकता
4. * इस प्रक्रिया के लिए विभिन्न प्रकार की बहुलकीय झिल्लियों का उपयोग किया जा सकता है

Question Number : 50 Question Id : 54592722876 Question Type : MCQ Option Shuffling : Yes
Correct Marks : 1 Wrong Marks : 0.25

Which of the following diseases can be transmitted by poor sanitation?

- i. Cholera,
- ii. Diarrhoea,
- iii. Dysentery

Use the code to give the correct answer –

Options :

1. * Only i and ii
2. * Only ii and iii
3. * Only i and iii
4. ✓ i, ii and iii

Question Number : 50 Question Id : 54592722876 Question Type : MCQ Option Shuffling : Yes
Correct Marks : 1 Wrong Marks : 0.25

निम्न में से कौन सी बीमारी स्वच्छता में दोष के कारण फैल सकती है?

- i. हैजा,
- ii. दस्त,
- iii. पेचिश

सही उत्तर देने के लिए कूट का उपयोग करें।

Options :

- 1. ✖ केवल i और ii
- 2. ✖ केवल ii और iii
- 3. ✖ केवल i और iii
- 4. ✔ i, ii और iii

Question Number : 51 Question Id : 54592722877 Question Type : MCQ Option Shuffling : Yes
Correct Marks : 1 Wrong Marks : 0.25

What are the immediate symptoms of Arsenic poisoning through drinking water?

Options :

- 1. ✖ pigmentation changes
- 2. ✖ skin lesions
- 3. ✖ hyperkeratosis
- 4. ✔ diarrhoea

Question Number : 51 Question Id : 54592722877 Question Type : MCQ Option Shuffling : Yes
Correct Marks : 1 Wrong Marks : 0.25

पीने के पानी के माध्यम से आर्सेनिक विषाक्तता के तत्काल लक्षण क्या हैं?

Options :

- 1. ✖ पिगमेंटेशन का बदलना

2. ✖ त्वचा क्षति
3. ✖ हाइपरकेरटोइसिस
4. ✔ दस्त

Question Number : 52 Question Id : 54592722878 Question Type : MCQ Option Shuffling : Yes
Correct Marks : 1 Wrong Marks : 0.25

Match the following:

1. Phylum – Ctenophora : i. Flatworms,
2. Phylum – Platyhelminthes : ii. Sea walnuts,
3. Phylum – Aschelminthes : iii. Roundworms

Use the code to give the correct answer.

Options :

1. ✔ 1(ii), 2(i), 3(iii)
2. ✖ 1(i), 2(ii), 3(iii)
3. ✖ 1(iii), 2(i), 3(ii)
4. ✖ 1(ii), 2(iii), 3(i)

Question Number : 52 Question Id : 54592722878 Question Type : MCQ Option Shuffling : Yes
Correct Marks : 1 Wrong Marks : 0.25

निम्नलिखित को मिलाएं:

1. संघ टीनोफोर : i. चपटे कृमि
2. संघ प्लेटीहैल्मिंथीज : ii. समुद्री अखरोट
3. संघ ऐस्वेफलमिंथीज : iii. गोल कृमि

सही उत्तर देने के लिए कूट का उपयोग करें।

Options :

1. ✓ 1(ii), 2(i), 3(iii)
2. ✗ 1(i), 2(ii), 3(iii)
3. ✗ 1(iii), 2(i), 3(ii)
4. ✗ 1(ii), 2(iii), 3(i)

Question Number : 53 Question Id : 54592722879 Question Type : MCQ Option Shuffling : Yes
Correct Marks : 1 Wrong Marks : 0.25

Consider the following relative values of electrical conductivity (σ) or resistivity ($\rho = 1/\sigma$) of a few solids,

- i. $\rho \sim 10^{-2} - 10^{-8} \Omega \text{ m} : \sigma \sim 10^2 - 10^8 \text{ S m}^{-1}$,
- ii. $\rho \sim 10^{-5} - 10^6 \Omega \text{ m} : \sigma \sim 10^5 - 10^{-6} \text{ S m}^{-1}$,
- iii. $\rho \sim 10^{11} - 10^{19} \Omega \text{ m} : \sigma \sim 10^{-11} - 10^{-19} \text{ S m}^{-1}$

Which of the above can be a metal, a semiconductor and an insulator?

Options :

1. ✗ i. Semiconductor; ii. Metal; iii. Insulator
2. ✗ i. Metal; ii. Insulator; iii. Semiconductor
3. ✓ i. Metal; ii. Semiconductor; iii. Insulator
4. ✗ i. Insulator; ii. Semiconductor; iii. Metal

Question Number : 53 Question Id : 54592722879 Question Type : MCQ Option Shuffling : Yes
Correct Marks : 1 Wrong Marks : 0.25

कुछ ठोस पदार्थों के विद्युत चालकता (σ) अथवा प्रतिरोधकता ($\rho = 1/\sigma$) के सापेक्ष मान पर विचार करें - ,

- i. $\rho \sim 10^{-2} - 10^{-8} \Omega \text{ m} : \sigma \sim 10^2 - 10^8 \text{ S m}^{-1}$,
- ii. $\rho \sim 10^{-5} - 10^6 \Omega \text{ m} : \sigma \sim 10^5 - 10^{-6} \text{ S m}^{-1}$,
- iii. $\rho \sim 10^{11} - 10^{19} \Omega \text{ m} : \sigma \sim 10^{-11} - 10^{-19} \text{ S m}^{-1}$

उपरोक्त में से कौन सी एक धातु, एक अर्धचालक और एक इन्सुलेटर हो सकती है?

Options :

- 1. * i. अर्धचालक; ii. धातु; iii. विद्युत्रोधी
- 2. * i. धातु; ii. विद्युत्रोधी; iii. अर्धचालक
- 3. ✓ i. धातु; ii. अर्धचालक; iii. विद्युत्रोधी
- 4. * i. विद्युत्रोधी; ii. अर्धचालक; iii. धातु

Question Number : 54 Question Id : 54592722880 Question Type : MCQ Option Shuffling : Yes
Correct Marks : 1 Wrong Marks : 0.25

Which of the following are sources of carbohydrates?

- i. Fishes
- ii. Rice
- iii. Wheat

Use the code to give the correct answer.

Options :

- 1. * Only i and ii
- 2. ✓ Only ii and iii

3. ✖ Only i and iii

4. ✖ i, ii and iii

Question Number : 54 Question Id : 54592722880 Question Type : MCQ Option Shuffling : Yes
Correct Marks : 1 Wrong Marks : 0.25

Question Number : 55 Question Id : 54592722881 Question Type : MCQ Option Shuffling : Yes
Correct Marks : 1 Wrong Marks : 0.25

Which of the following trophic levels possesses the maximum amount of energy?

Options :

1. ✔ Producers

2. ✖ Primary Consumers

3. ✖ Secondary Consumers

4. ✖ Tertiary Consumers

Question Number : 55 Question Id : 54592722881 Question Type : MCQ Option Shuffling : Yes
Correct Marks : 1 Wrong Marks : 0.25

निम्न में से कौन सा पोषी स्तर ऊर्जा की अधिकतम मात्रा रखता है?

Options :

1. ✔ उत्पादक

2. ✖ प्राथमिक उपभोक्ता

3. ✖ द्वितीय उपभोक्ता

4. ✖ तृतीय उपभोक्ता

Question Number : 56 Question Id : 54592722882 Question Type : MCQ Option Shuffling : Yes
Correct Marks : 1 Wrong Marks : 0.25

When the primary tributaries of rivers flow parallel to each other and secondary tributaries join them at right angles, what is the pattern called?

Options :

1. ✖ Centripetal

2. ✔ Trellis

3. ✖ Radial

4. ✖ Dendritic

Question Number : 56 Question Id : 54592722882 Question Type : MCQ Option Shuffling : Yes

Correct Marks : 1 Wrong Marks : 0.25

जब मुख्य नदियाँ एक-दूसरे के समांतर बहती हों तथा सहायक नदियाँ उनसे समकोण पर मिलती हों, तो ऐसे प्रतिरूप को क्या कहा जाता है?

Options :

1. ✖ केंद्राभिगामी अपवाह प्रतिरूप

2. ✓ जालीनुमा अपवाह प्रतिरूप

3. ✖ दीप्तिमान (रेडियल) अपवाह प्रतिरूप

4. ✖ वृक्षाकार अपवाह प्रतिरूप

Question Number : 57 Question Id : 54592722883 Question Type : MCQ Option Shuffling : Yes

Correct Marks : 1 Wrong Marks : 0.25

Which of the following places is famous for Karewa formations, that are useful for the cultivation of Zafran?

Options :

1. ✓ Kashmir Himalayas

2. ✖ South Asian Glaciers

3. ✖ Darjeeling and Sikkim Himalayas

4. ✖ Eastern hills and mountains

Question Number : 57 Question Id : 54592722883 Question Type : MCQ Option Shuffling : Yes

Correct Marks : 1 Wrong Marks : 0.25

निम्नलिखित में से कौनसा स्थान करेवा के लिए प्रसिद्ध है, जहाँ जाफरान की खेती की जाती है?

Options :

1. ✓ कश्मीर हिमालय

2. ✖ दक्षिण एशियाई ग्लेशियर

3. ✖ दार्जिलिंग और सिक्किम हिमालय

4. ✖ पूर्वी पहाड़ियां और पर्वत

Question Number : 58 Question Id : 54592722884 Question Type : MCQ Option Shuffling : Yes

Correct Marks : 1 Wrong Marks : 0.25

Chemically, the (i) _____ are rich in lime, iron, magnesia and alumina. They also contain (ii) _____. But they lack in phosphorous, nitrogen and organic matter.

Options :

1. ✖ (i) alluvial soil (ii) potash

2. ✖ (i) black soil (ii) sulphur

3. ✔ (i) black soil (ii) potash

4. ✖ (i) alluvial soil (ii) sulphur

Question Number : 58 Question Id : 54592722884 Question Type : MCQ Option Shuffling : Yes

Correct Marks : 1 Wrong Marks : 0.25

रासायनिक दृष्टि से (i) _____ में चूने, लौह, मैग्नीशिया तथा ऐलुमिना के तत्त्व अधिक मात्रा में पाए जाते हैं। इनमें (ii) _____ की मात्रा भी पाई जाती है। लेकिन इनमें फ़ास्फ़रोस, नाइट्रोजन और जैव पदार्थों की कमी होती है।

Options :

1. ✖ (i) जलोढ़ मृदा (ii) पोटाश

2. ✖ (i) काली मृदा (ii) सल्फर

3. ✔ (i) काली मृदा (ii) पोटाश

4. ✖ (i) जलोढ़ मृदा (ii) गंधक

Question Number : 59 Question Id : 54592722885 Question Type : MCQ Option Shuffling : Yes

Correct Marks : 1 Wrong Marks : 0.25

Consider the following statements about a crop:

- i. It is grown in kharif season in semi-arid areas of the country,
- ii. India ranks second in the world in the production of this crop after China,
- iii. India lost a large proportion of this crop's growing area to Pakistan during partition.

Which crop is being talked about?

Options :

- 1. ✖ Wheat
- 2. ✔ Cotton
- 3. ✖ Sugarcane
- 4. ✖ Rice

Question Number : 59 Question Id : 54592722885 Question Type : MCQ Option Shuffling : Yes

Correct Marks : 1 Wrong Marks : 0.25

एक फसल के बारे में निम्नलिखित कथनों पर विचार करें -

- i. यह एक उष्ण कटिबंधीय फसल है जो देश के अर्ध-शुष्क भागों में खरीफ ऋतु में बोई जाती है ।
- ii. भारत का इस फसल के उत्पादन में विश्व में चीन के पश्चात दूसरा स्थान है ।
- iii. भारत का इस फसल का बहुत बड़ा उत्पादन क्षेत्र देश विभाजन के समय पाकिस्तान में चला गया ।

किस फसल की बात हो रही है?

Options :

- 1. ✖ गेहूं
- 2. ✔ कपास

3. ✖ गन्ना

4. ✖ चावल

Question Number : 60 Question Id : 54592722886 Question Type : MCQ Option Shuffling : Yes

Correct Marks : 1 Wrong Marks : 0.25

Read the following statements carefully:

1. The decades 1951-1981 are referred to as the period of population explosion in India, which was caused by a rapid fall in the mortality rate but a high fertility rate of population in the country.,
2. The average annual growth rate was as high as 5.3 per cent.,
3. Increased international migration bringing in Tibetans, Bangladeshis, Nepalis and even people from Pakistan contributed to the high growth rate.

Which of the statement/s is/are true?

Options :

1. ✔ Statement 1 and 3 only
2. ✖ Statement 1 and 2 only
3. ✖ Statement 2 and 3 only
4. ✖ Statement 2 only

Question Number : 60 Question Id : 54592722886 Question Type : MCQ Option Shuffling : Yes

Correct Marks : 1 Wrong Marks : 0.25

निम्नलिखित कथनों को ध्यान से पढ़ें:

1. 1951-81 दशकों को भारत में जनसंख्या विस्फोट की अवधि के रूप में जाना जाता है; यह देश की कम मृत्यु दर और जनसंख्या की उच्च प्रजनन दर के कारण हुआ।,
2. औसत वार्षिक विकास दर कम से कम 5.3 प्रतिशत था ,
3. तिब्बतियों, बांग्लादेशियों, नेपालियों को देश में लाने वाले बढ़ते अंतर्राष्ट्रीय प्रवास और यहा तक कि पाकिस्तान से आने वाले लोगों ने भी उच्च वृद्धि दर में योगदान दिया।

कौन सा/कौनसे कथन सत्य है?

Options :

1. ✓ केवल कथन 1 और 3
2. ✖ केवल कथन 1 और 2
3. ✖ केवल कथन 2 और 3
4. ✖ केवल कथन 2

General Awareness2

Group Number :	4
Group Id :	5459271134
Group Maximum Duration :	0
Group Minimum Duration :	0
Show Attended Group? :	No
Edit Attended Group? :	No
Break time:	0
Group Marks:	20
Is this Group for Examiner? :	No
Revisit allowed for group Instructions? :	Yes
Maximum Instruction Time:	0
Minimum Instruction Time:	0

General Awareness2

Section Id :	5459271134
Section Number :	1
Section type :	Online
Mandatory or Optional:	Mandatory
Number of Questions:	20
Number of Questions to be attempted:	20
Section Marks:	20

Sub-Section Number:	1
Sub-Section Id:	5459271360
Question Shuffling Allowed :	Yes

Question Number : 61 Question Id : 54592722887 Question Type : MCQ Option Shuffling : Yes
Correct Marks : 1 Wrong Marks : 0.25

India with its area of (i)___ million sq. km accounts for (ii)___ percent of the world's land surface area.

Options :

1. ✓ (i) 3.28 (ii) 2.4
2. ✗ (i) 5.28 (ii) 2.4
3. ✗ (i) 3.28 (ii) 5.2
4. ✗ (i) 1.28 (ii) 3.4

Question Number : 61 Question Id : 54592722887 Question Type : MCQ Option Shuffling : Yes
Correct Marks : 1 Wrong Marks : 0.25

भारत का क्षेत्रफल (i)___ लाख वर्ग किलोमीटर है जो विश्व के स्थलीय धरातल का (ii)___ प्रतिशत भाग है।

Options :

1. ✓ (i) 3.28 (ii) 2.4
2. ✗ (i) 5.28 (ii) 2.4
3. ✗ (i) 3.28 (ii) 5.2
4. ✗ (i) 1.28 (ii) 3.4

Question Number : 62 Question Id : 54592722888 Question Type : MCQ Option Shuffling : Yes
Correct Marks : 1 Wrong Marks : 0.25

Read the following verse carefully and identify its source from the options given below:

“Bring thou, O strong one, this sacrifice of ours to the Gods, O wise one, as a liberal giver. Bestow on us, O priest, abundant food. Agni, obtain, by sacrificing, mighty wealth for us.”

Options :

1. ✖ The Upanishadas
2. ✔ The Rigvedas
3. ✖ The Tripitaka
4. ✖ The UttaradhyayanaSutta

Question Number : 62 Question Id : 54592722888 Question Type : MCQ Option Shuffling : Yes

Correct Marks : 1 Wrong Marks : 0.25

निम्नलिखित छंद ध्यानपूर्वक पढ़ें एवं दिए गए विकल्पों में से इसके स्रोत का पहचान करें:

“हे शक्तिशाली देव, आप हमारी आहुति देवताओं तक ले जाएँ। हे बुद्धिमंत, आप तो सबके दाता हैं। हे पुरोहित, हमें खूब सारे खाद्य पदार्थ दें। अग्नि, हमारे लिए शक्तिशाली धन का त्याग करके प्राप्त करें।”

Options :

1. ✖ उपनिषद्
2. ✔ ऋग्वेद
3. ✖ त्रिपिटक
4. ✖ उत्तराध्ययनसूत्रा

Question Number : 63 Question Id : 54592722889 Question Type : MCQ Option Shuffling : Yes

Correct Marks : 1 Wrong Marks : 0.25

Read the following statements carefully :

1. Al-Biruni's Kitab-ul-Hind is written in Arabic and is divided into 50 chapters on various subjects,
2. Generally (though not always), Al-Biruni adopted a distinctive structure in each chapter, beginning with a question, which is followed with a description.

Which of the above statement/s is/are correct ?

Options :

1. ✖ Statement 1 only
2. ✔ Statement 2 only
3. ✖ Statement 1 and 2
4. ✖ Neither 1 nor 2

Question Number : 63 Question Id : 54592722889 Question Type : MCQ Option Shuffling : Yes
Correct Marks : 1 Wrong Marks : 0.25

दिए गए कथनों को ध्यानपूर्वक पढ़ें:

1. अरबी में लिखी गई अल-बिरूनी की कृति किताब-उल-हिन्द भिन्न विषयों के आधार पर 50 अध्यायों में विभाजित है,
2. सामान्यतः (हालाँकि हमेशा नहीं) अल-बिरूनी ने प्रत्येक अध्याय में एक विशिष्ट शैली का प्रयोग किया जिसमें आरंभ में एक प्रश्न होता था एवं उसके पश्चात वर्णना दी जाती थी।

उपरोक्त कथनों में से कौनसा कथन सही है?

Options :

1. ✖ केवल कथन 1

- 2. ✓ केवल कथन 2
- 3. ✖ कथन 1 और कथन 2
- 4. ✖ ना तो कथन 1 और ना ही कथन 2

Question Number : 64 Question Id : 54592722890 Question Type : MCQ Option Shuffling : Yes
Correct Marks : 1 Wrong Marks : 0.25

Read the following statements below:

- 1. Abu'lHasan al Hujwiri wrote a book in Persian called the Kashf- ul-Mahjub (Unveiling of the Veiled) to explain the meaning of tasawwuf, and those who practised it, that is, the sufi.
- 2. By the eleventh century Sufism evolved into a well-developed movement with a body of literature on Quranic studies and sufi practices.
- 3. Sufi silsilas began to crystallise in different parts of the Islamic world around the twelfth century.

Which of the statement/s is/are true ?

Options :

- 1. ✖ Statement 1 only
- 2. ✖ Statement 2 and 3 only
- 3. ✖ Statement 1 and 3 only
- 4. ✓ Statement 1, 2 and 3

Question Number : 64 Question Id : 54592722890 Question Type : MCQ Option Shuffling : Yes
Correct Marks : 1 Wrong Marks : 0.25

निम्नलिखित कथनों को ध्यानपूर्वक पढ़ें:

1. अबुल हसन अल हुजविरी ने फारसी में एक किताब लिखी 'कश्फ-उल-महजुब' (परदे वाले की बेपर्दगी) जिसमें तसव्वुफ के मायने और इसका पालन करने वाले सूफियों के बारे में बताया गया था।
2. ग्यारहवीं शताब्दी तक आते-आते सूफीवाद एक पूर्ण विकसित आंदोलन था जिसका सूफी और कूरान से जुड़ा अपना साहित्य था।
3. बारहवीं शताब्दी के आसपास इस्लामी दुनिया में सूफी सिलसिलों का गठन होने लगा।

निम्नलिखित में से कौनसा कथन सच है?

Options :

1. ✖ केवल कथन 1
2. ✖ केवल कथन 2 और 3
3. ✖ केवल कथन 1 और 3
4. ✔ कथन 1, 2 और 3

Question Number : 65 Question Id : 54592722891 Question Type : MCQ Option Shuffling : Yes
Correct Marks : 1 Wrong Marks : 0.25

Read the following statements:

1. The amara-nayaka system was a major political innovation of the Vijayanagara Empire.
2. The amara-nayakas were farmers who were given territories to govern by the raya.
3. The amara-nayakas sent tribute to the king annually and personally appeared in the royal court with gifts to express their loyalty.

Which of the above statement/s is/are true ?

Options :

1. ✖ Statement 1 and 2 only
2. ✖ Statement 2 and 3 only
3. ✔ Statement 1 and 3 only
4. ✖ Statement 1 only

Question Number : 65 Question Id : 54592722891 Question Type : MCQ Option Shuffling : Yes
Correct Marks : 1 Wrong Marks : 0.25

निम्नलिखित कथनों को ध्यानपूर्वक पढ़ें:

1. अमर-नायक प्रणाली विजयनगर साम्राज्य की एक प्रमुख राजनीतिक खोज थी।
2. अमर-नायक किसान थे जिन्हें राय द्वारा प्रशासन के लिए राज्य-क्षेत्रा दिये जाते थे।
3. अमर-नायक राजा को वर्ष में एक बार भेंट भेजा करते थे और अपनी स्वामिभक्ति प्रकट करने के लिए राजकीय दरबार में उपहारों के साथ स्वयं उपस्थित हुआ करते थे।

निम्नलिखित में से कौनसा कथन सच है?

Options :

1. ✖ केवल कथन 1 और 2
2. ✖ केवल कथन 2 और 3
3. ✔ केवल कथन 1 और 3
4. ✖ केवल कथन 1

Question Number : 66 Question Id : 54592722892 Question Type : MCQ Option Shuffling : Yes
Correct Marks : 1 Wrong Marks : 0.25

Match the following historical events with their corresponding years of occurrence:

1. Subsidiary Alliance introduced by Wellesley in Awadh : i. 1856,
2. NawabWajid Ali Shah deposed; Awadh annexed : ii. 1801,
3. Sepoy Mutiny starts : iii. 1857,

Use the code to give the correct answer.

Options :

1. ✓ 1(i), 2(ii), 3(iii)
2. ✗ 1(ii), 2(i), 3(iii)
3. ✗ 1(iii), 2(ii), 3(i)
4. ✗ 1(ii), 2(iii), 3(i)

Question Number : 66 Question Id : 54592722892 Question Type : MCQ Option Shuffling : Yes
Correct Marks : 1 Wrong Marks : 0.25

निम्नलिखित ऐतिहासिक घटनाओं को उनकी घटना के वर्षों के साथ मिलान करें:

1. अवध में वेलेजली द्वारा सहायक संधि लागू की गई : i. 1856,
2. नवाब वाजिद अली शाह को गद्दी से हटाया गया, अवध का अधिग्रहण : ii. 1801,
3. सिपाही विद्रोह आरम्भ हुआ : iii. 1857,

कूट का प्रयोग कर सही उत्तर दें।

Options :

1. ✓ 1(i), 2(ii), 3(iii)

2. ✖ 1(ii), 2(i), 3(iii)

3. ✖ 1(iii), 2(ii), 3(i)

4. ✖ 1(ii), 2(iii), 3(i)

Question Number : 67 Question Id : 54592722893 Question Type : MCQ Option Shuffling : Yes
Correct Marks : 1 Wrong Marks : 0.25

Who was elected by the mutinous 22nd Native Infantry as their leader during the Revolt of 1857?

Options :

1. ✖ Mangal Panday

2. ✔ Maulvi Ahmadullah Shah

3. ✖ Shah Mal

4. ✖ Nana Saheb Peshwa

Question Number : 67 Question Id : 54592722893 Question Type : MCQ Option Shuffling : Yes
Correct Marks : 1 Wrong Marks : 0.25

1857 के विद्रोह के दौरान 22वीं नेटिव इन्फैंट्री (देशी पैदल सेना) के विद्रोहियों ने किसे अपना नेता चुन लिया था?

Options :

1. ✖ मंगल पांडे

2. ✔ मौलवी अहमदुल्लाह शाह

3. ✖ शाह मल

4. ✖ नाना साहिब पेशवा

Question Number : 68 Question Id : 54592722894 Question Type : MCQ Option Shuffling : Yes
Correct Marks : 1 Wrong Marks : 0.25

The Governor of (i) _____ is (ii) _____

Note: For this question, discrepancy is found in question/answer. So, this question is ignored for all candidates.

Options :

1. (i) Andhra Pradesh and Telangana (ii) Ekkadu Srinivasan Lakshmi Narasimhan
2. (i) Madhya Pradesh and Chhattisgarh (ii) Jagdish Mukhi
3. (i) Assam and Mizoram (ii) Kaptan Singh Solanki
4. (i) Odisha and West Bengal (ii) Tathagata Roy

Question Number : 68 Question Id : 54592722894 Question Type : MCQ Option Shuffling : Yes
Correct Marks : 1 Wrong Marks : 0.25

(i)_____ के राज्यपाल (ii)_____ हैं

Note: For this question, discrepancy is found in question/answer. So, this question is ignored for all candidates.

Options :

1. (i) आंध्र प्रदेश और तेलंगाना (ii) एक्काडु श्रीनिवासन लक्ष्मी नरसिम्हन
2. (i) मध्य प्रदेश और छत्तीसगढ़ (ii) जगदीश मुखी
3. (i) असम और मिजोरम (ii) कप्तान सिंह सोलंकी
4. (i) ओडिशा और पश्चिम बंगाल (ii) तथागत रॉय

Question Number : 69 Question Id : 54592722895 Question Type : MCQ Option Shuffling : Yes
Correct Marks : 1 Wrong Marks : 0.25

Admiral Karambir Singh assumed command of the Indian Navy on (i) _____ as the (ii)_____ Chief of the Naval Staff.

Options :

1. ✖ (i) 15th January 2016, (ii) 21st
2. ✔ (i) 31st may 2019, (ii) 24th
3. ✖ (i) 3rd October 2017, (ii) 13th
4. ✖ (i) 19th August 2018 , (ii) 20th

Question Number : 69 Question Id : 54592722895 Question Type : MCQ Option Shuffling : Yes
Correct Marks : 1 Wrong Marks : 0.25

एडमिरल करमवीर सिंह ने (i)_____ को, नौसेना स्टाफ (ii) _____ के प्रमुख के रूप में भारतीय नौसेना की कमान संभाली।

Options :

1. ✖ (i) 15 जनवरी 2016, (ii) 21 वीं
2. ✔ (i) 31 मई 2019, (ii) 24 वां
3. ✖ (i) 3 अक्टूबर 2017, (ii) 13 वां
4. ✖ (i) 19 अगस्त 2018, (ii) 20 वीं

Question Number : 70 Question Id : 54592722896 Question Type : MCQ Option Shuffling : Yes
Correct Marks : 1 Wrong Marks : 0.25

In the year 2019, the President of India had approved conferment of 112 Padma Awards comprising of (i) _____ Padma Vibhushan, (ii) _____ Padma Bhushan and (iii) _____ Padma Shri Awards.

Options :

1. ✖ (i) 4 (ii) 8 (iii) 100
2. ✔ (i) 4 (ii) 14 (iii) 94
3. ✖ (i) 10 (ii) 2 (iii) 100
4. ✖ (i) 15 (ii) 9 (iii) 88

Question Number : 70 Question Id : 54592722896 Question Type : MCQ Option Shuffling : Yes
Correct Marks : 1 Wrong Marks : 0.25

वर्ष 2019 में, भारत के राष्ट्रपति ने 112 पद्म पुरस्कार प्रदान करने को मंजूरी दी थी, जिसमें (i) _____ पद्म विभूषण, (ii) _____ पद्म भूषण और (iii) _____ पद्मश्री पुरस्कार शामिल थे।

Options :

1. ✖ (i) 4 (ii) 8 (iii) 100
2. ✔ (i) 4 (ii) 14 (iii) 94
3. ✖ (i) 10 (ii) 2 (iii) 100

4. ✖ (i) 15 (ii) 9 (iii) 88

Question Number : 71 Question Id : 54592722897 Question Type : MCQ Option Shuffling : Yes

Correct Marks : 1 Wrong Marks : 0.25

_____ was a great dramatist, who is well known for his play Uttara-Ramacharitam (the later life of Rama).

Options :

1. ✔ Bhavabhuti

2. ✖ Surdasa

3. ✖ Kalidasa

4. ✖ Jayadeva

Question Number : 71 Question Id : 54592722897 Question Type : MCQ Option Shuffling : Yes

Correct Marks : 1 Wrong Marks : 0.25

_____ एक महान नाटककार थे, जो अपने नाटक उत्तररामचरित (राम के जीवन का उत्तरार्द्ध) के लिए बहुत विख्यात हैं ।

Options :

1. ✔ भवभूति

2. ✖ सूरदास

3. ✖ कालिदास

4. ✖ जयदेव

Question Number : 72 Question Id : 54592722898 Question Type : MCQ Option Shuffling : Yes

Correct Marks : 1 Wrong Marks : 0.25

FAIR is an upcoming international accelerator facility at Darmstadt, Germany of which India is a Founder-Member country. Which Indian institution is the nodal institution at the national level for implementation of this project?

Options :

1. ✖ IIT Kharagpur

2. ✖ IIT Bombay

3. ✖ Saha Institute of Nuclear Physics, Kolkata

4. ✔ Bose Institute, Kolkata

Question Number : 72 Question Id : 54592722898 Question Type : MCQ Option Shuffling : Yes
Correct Marks : 1 Wrong Marks : 0.25

जर्मनी के डार्मस्टाड में स्थित एफ.ए.आई.आर. (फेयर) एक आगामी अंतरराष्ट्रीय त्वरक सुविधा है, जिसमें भारत एक संस्थापक सदस्य देश है। इस परियोजना के कार्यान्वयन के लिए राष्ट्रीय स्तर पर कौन सा भारतीय संस्थान नोडल संस्थान है?

Options :

1. ✖ आईआईटी खड़गपुर

2. ✖ आईआईटी बॉम्बे

3. ✖ साहा इंस्टीट्यूट ऑफ न्यूक्लियर फिजिक्स, कोलकाता

4. ✔ बोस इंस्टीट्यूट, कोलकाता

Question Number : 73 Question Id : 54592722899 Question Type : MCQ Option Shuffling : Yes
Correct Marks : 1 Wrong Marks : 0.25

The first image of a Black Hole was taken in (i)_____ with the help of (ii)_____ observatories?

Options :

1. ✖ (i) 2018 (ii) 8

2. ✖ (i) 2019 (ii) 10

3. ✔ (i) 2019 (ii) 8

4. ✖ (i) 2018 (ii) 10

Question Number : 73 Question Id : 54592722899 Question Type : MCQ Option Shuffling : Yes
Correct Marks : 1 Wrong Marks : 0.25

ब्लैक होल की पहली छवि वर्ष (i) _____ में (ii) _____ वेधशालाओं (ऑब्जर्वर) की मदद से ली गई थी।

Options :

1. ✖ (i) 2018 (ii) 8
2. ✖ (i) 2019 (ii) 10
3. ✔ (i) 2019 (ii) 8
4. ✖ (i) 2018 (ii) 10

Question Number : 74 Question Id : 54592722900 Question Type : MCQ Option Shuffling : Yes
Correct Marks : 1 Wrong Marks : 0.25

Match the following features of the Indian Constitution and the source from which they have been borrowed:

1. Fundamental Rights : i. Irish Constitution,
2. Principle of Cabinet Government : ii. British Constitution,
3. Directive Principles of State Policy : iii. American Constitution,

Use the codes to give the correct answer.

Options :

1. ✖ 1(i), 2(ii), 3(iii)
2. ✖ 1(ii), 2(iii), 3(i)
3. ✔ 1(iii), 2(ii), 3(i)
4. ✖ 1(iii), 2(i), 3(ii)

Question Number : 74 Question Id : 54592722900 Question Type : MCQ Option Shuffling : Yes
Correct Marks : 1 Wrong Marks : 0.25

भारतीय संविधान के निम्नलिखित विशेषताओं और उनके स्रोत जहां से वह लिए गए हैं, का मिलान करें:

1. मौलिक अधिकार : i. आयरिश संविधान,
2. संघीय सरकार के सिद्धांत : ii. ब्रिटिश संविधान,
3. राज्य के नीति-निदेशक सिद्धांत : iii. अमेरिकी संविधान,

कूट का प्रयोग कर सही उत्तर दें।

Options :

1. ✖ 1(i), 2(ii), 3(iii)
2. ✖ 1(ii), 2(iii), 3(i)
3. ✔ 1(iii), 2(ii), 3(i)
4. ✖ 1(iii), 2(i), 3(ii)

Question Number : 75 Question Id : 54592722901 Question Type : MCQ Option Shuffling : Yes

Correct Marks : 1 Wrong Marks : 0.25

Which Constitutional Amendment Act has inserted the Right to Education provision in the Indian Constitution?

Options :

1. ✖ 42nd
2. ✖ 44th
3. ✖ 76th
4. ✔ 86th

Question Number : 75 Question Id : 54592722901 Question Type : MCQ Option Shuffling : Yes

Correct Marks : 1 Wrong Marks : 0.25

शिक्षा का अधिकार की व्यवस्था को कौन-से संवैधानिक संशोधन अधिनियम द्वारा भारतीय संविधान में जोड़ा गया था?

Options :

1. ✖ 42-वें
2. ✖ 44-वें
3. ✖ 76-वें
4. ✔ 86-वें

Question Number : 76 Question Id : 54592722902 Question Type : MCQ Option Shuffling : Yes
Correct Marks : 1 Wrong Marks : 0.25

In the Constituent Assembly, Jawaharlal Nehru was the Chairman of _____.

Options :

1. ✖ Union Power Committee and Steering Committee
2. ✔ Union Constitution Committee and Union Power Committee
3. ✖ Drafting Committee and Union Power Committee
4. ✖ Provincial Constitution Committee and Rules of Procedure Committee

Question Number : 76 Question Id : 54592722902 Question Type : MCQ Option Shuffling : Yes
Correct Marks : 1 Wrong Marks : 0.25

संविधान सभा में जवाहरलाल नेहरू _____ के अध्यक्ष थे

Options :

1. ✖ संघ शक्ति समिति और संचालन समिति
2. ✔ संघ संविधान समिति और संघ शक्ति समिति
3. ✖ प्रारूप समिति और संघ शक्ति समिति
4. ✖ प्रांतीय संविधान समिति और प्रक्रिया नियम समिति

Question Number : 77 Question Id : 54592722903 Question Type : MCQ Option Shuffling : Yes
Correct Marks : 1 Wrong Marks : 0.25

Which of the following statements about the National Food Security Act is incorrect?

Options :

1. ✖ It is also called the Right to Food Act
2. ✔ The Act was enacted in the year 2015
3. ✖ It provided that the eldest woman of the household of age 18 years or above will be the head of the household for the purpose of issuing of ration cards
4. ✖ The Act covered the entire territory of India

Question Number : 77 Question Id : 54592722903 Question Type : MCQ Option Shuffling : Yes

Correct Marks : 1 Wrong Marks : 0.25

राष्ट्रीय खाद्य सुरक्षा अधिनियम सम्बन्धी निम्नलिखित कथनों में से कौनसा कथन गलत है?

Options :

1. ✖ इस अधिनियम को खाद्य का अधिकार अधिनियम भी कहा जाता है
2. ✔ यह अधिनियम वर्ष 2015 में लागू किया गया था
3. ✖ अधिनियम में यह प्रावधान किया गया कि 18 वर्ष या उससे अधिक आयु की घरेलू महिला राशन कार्ड जारी करने के उद्देश्य से घर की मुखिया होगी
4. ✖ अधिनियम सम्पूर्ण भारत पर लागू था

Question Number : 78 Question Id : 54592722904 Question Type : MCQ Option Shuffling : Yes

Correct Marks : 1 Wrong Marks : 0.25

In which of the following Indian cities is the world's largest Cricket stadium being constructed?

Options :

1. ✖ Indore
2. ✖ Gwalior
3. ✖ Surat
4. ✔ Ahmedabad

Question Number : 78 Question Id : 54592722904 Question Type : MCQ Option Shuffling : Yes
Correct Marks : 1 Wrong Marks : 0.25

निम्नलिखित में से किस भारतीय शहर में विश्व का सबसे बड़ा क्रिकेट स्टेडियम बनाया जा रहा है?

Options :

1. ✖ इंदौर
2. ✖ ग्वालियर
3. ✖ सूरत
4. ✔ अहमदाबाद

Question Number : 79 Question Id : 54592722905 Question Type : MCQ Option Shuffling : Yes
Correct Marks : 1 Wrong Marks : 0.25

Match the following sportsmen/sportswomen with their respective sports:

1. Julia Görges - i. Golf,
2. Brook Koepka - ii. Football,
3. Eden Hazard - iii. Tennis,

Use the code to give the correct answer.

Options :

1. ✔ 1(iii), 2(i), 3(ii)
2. ✖ 1(i), 2(ii), 3(iii)
3. ✖ 1(ii), 2(iii), 3(i)
4. ✖ 1(ii), 2(i), 3(iii)

Question Number : 79 Question Id : 54592722905 Question Type : MCQ Option Shuffling : Yes
Correct Marks : 1 Wrong Marks : 0.25

निम्नलिखित खिलाड़ियों को उनके संबंधित खेलों से मिलान करें:

1. जूलिया गॉर्जस - i. गोल्फ,
2. ब्रूक केप्का - ii. फुटबॉल,
3. ईडन हैजर्ड - iii. टेनिस,

सही उत्तर देने के लिए कूट का उपयोग करें।

Options :

1. ✓ 1(iii), 2(i), 3(ii)
2. ✗ 1(i), 2(ii), 3(iii)
3. ✗ 1(ii), 2(iii), 3(i)
4. ✗ 1(ii), 2(i), 3(iii)

Question Number : 80 Question Id : 54592722906 Question Type : MCQ Option Shuffling : Yes
Correct Marks : 1 Wrong Marks : 0.25

The 'Offside Trap' terminology is used in _____.

Options :

1. ✗ lawn
2. ✗ Table Tennis
3. ✗ Badminton
4. ✓ Football

Question Number : 80 Question Id : 54592722906 Question Type : MCQ Option Shuffling : Yes
Correct Marks : 1 Wrong Marks : 0.25

'ऑफसाइड ट्रैप' शब्दावली का प्रयोग _____ में किया जाता है।

Options :

1. ✗ लॉन टेनिस
2. ✗ टेबल टेनिस

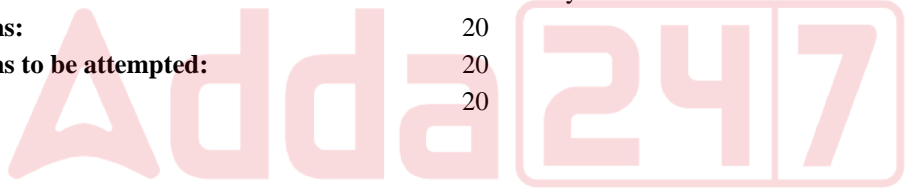
3. ✖ बैडमिंटन
4. ✔ फुटबॉल

Arithmetic Ability1

Group Number :	5
Group Id :	5459271135
Group Maximum Duration :	0
Group Minimum Duration :	0
Show Attended Group? :	No
Edit Attended Group? :	No
Break time:	0
Group Marks:	20
Is this Group for Examiner?:	No
Revisit allowed for group Instructions? :	Yes
Maximum Instruction Time:	0
Minimum Instruction Time:	0

Arithmetic Ability1

Section Id :	5459271135
Section Number :	1
Section type :	Online
Mandatory or Optional:	Mandatory
Number of Questions:	20
Number of Questions to be attempted:	20
Section Marks:	20



Sub-Section Number:	1
Sub-Section Id:	5459271361
Question Shuffling Allowed :	Yes

Question Number : 81 Question Id : 54592722907 Question Type : MCQ Option Shuffling : Yes
Correct Marks : 1 Wrong Marks : 0.25

DIRECTIONS: What should come in place of the question mark (?) in the following question?

$(32)^{\frac{1}{5}} \div 8^{\frac{1}{3}} = ?$

Options :

1. ✖ 2

2. ✖ 0

3. ✔ 1

4. ✖ 3

Question Number : 81 Question Id : 54592722907 Question Type : MCQ Option Shuffling : Yes
Correct Marks : 1 Wrong Marks : 0.25

निर्देश - निम्नलिखित प्रश्न में प्रश्नवाचक चिन्ह (?) के स्थान पर क्या आना चाहिए?

$$(32)^{1/5} \div (8)^{1/3} = ?$$

Options :

1. ✖ 2

2. ✖ 0

3. ✔ 1

4. ✖ 3

Question Number : 82 Question Id : 54592722908 Question Type : MCQ Option Shuffling : Yes
Correct Marks : 1 Wrong Marks : 0.25

What should come in place of the question mark (?) in the following question?

$$(27 \times 5)^2 - (115)^2 = ? \times 8$$

Options :

1. ✖ 125

2. ✖ 500

3. ✔ 625

4. ✖ 1250

Question Number : 82 Question Id : 54592722908 Question Type : MCQ Option Shuffling : Yes
Correct Marks : 1 Wrong Marks : 0.25

निम्नलिखित प्रश्न में प्रश्नवाचक चिन्ह (?) के स्थान पर क्या आना चाहिए?

$$(27 \times 5)^2 - (115)^2 = ? \times 8$$

Options :

1. ✖ 125
2. ✖ 500
3. ✔ 625
4. ✖ 1250

Question Number : 83 Question Id : 54592722909 Question Type : MCQ Option Shuffling : Yes
Correct Marks : 1 Wrong Marks : 0.25

DIRECTIONS : What should come in place of the question mark (?) in the following question?

$$1\frac{1}{4} \times 1\frac{7}{13} \div 3\frac{1}{13} \div 2\frac{1}{6} = ?$$

Options :

1. ✖ $\frac{12}{13}$
2. ✖ $\frac{15}{17}$
3. ✔ $\frac{15}{52}$
4. ✖ $\frac{17}{19}$

Question Number : 83 Question Id : 54592722909 Question Type : MCQ Option Shuffling : Yes

Correct Marks : 1 Wrong Marks : 0.25

निर्देश: निम्नलिखित प्रश्न में प्रश्नवाचक चिन्ह (?) के स्थान पर क्या आना चाहिए?

$$1\frac{1}{4} \times 1\frac{7}{13} \div 3\frac{1}{13} \div 2\frac{1}{6} = ?$$

Options :

1. ✖ $\frac{12}{13}$

2. ✖ $\frac{15}{17}$

3. ✔ $\frac{15}{52}$

4. ✖ $\frac{17}{19}$

Question Number : 84 Question Id : 54592722910 Question Type : MCQ Option Shuffling : Yes
Correct Marks : 1 Wrong Marks : 0.25

Find the largest of the following fractions?

$$\frac{27}{10}, \frac{34}{13}, \frac{34}{15}, \frac{28}{13}, \frac{17}{11}$$

Options :

1. ✔ $\frac{27}{10}$

2. ✖ $\frac{17}{11}$

3. ✖ $\frac{34}{15}$

4. ✖ $\frac{28}{13}$

Question Number : 84 Question Id : 54592722910 Question Type : MCQ Option Shuffling : Yes
Correct Marks : 1 Wrong Marks : 0.25

निम्नलिखित में से सबसे बड़ा भिन्न ज्ञात कीजिये?

$$\frac{27}{10}, \frac{34}{13}, \frac{34}{15}, \frac{28}{13}, \frac{17}{11}$$

Options :

1. ✔ $\frac{27}{10}$

2. ✖ $\frac{17}{11}$

3. ✖ $\frac{34}{15}$

4. ✖ $\frac{28}{13}$

Question Number : 85 Question Id : 54592722911 Question Type : MCQ Option Shuffling : Yes
Correct Marks : 1 Wrong Marks : 0.25

What should come in place of the question mark (?) in the following question?

$$40\% \text{ of } [\{ \overline{(16 - 8 + 18 - 12)} \times 5 - 6 \} \times 2 + 3] = ?$$

Options :

- 1. ✖ 253/5
- 2. ✖ 271/5
- 3. ✖ 267/5
- 4. ✔ 262/5

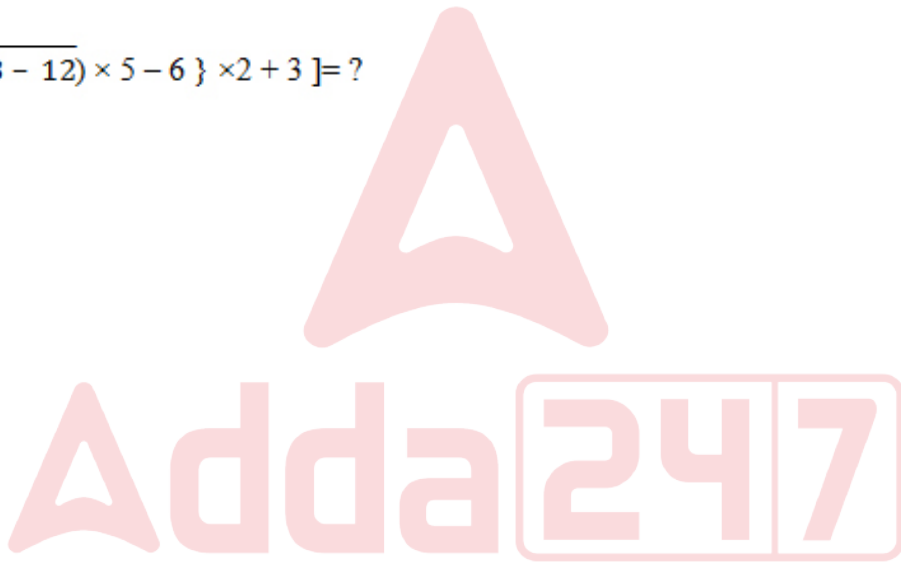
Question Number : 85 Question Id : 54592722911 Question Type : MCQ Option Shuffling : Yes
Correct Marks : 1 Wrong Marks : 0.25

निम्नलिखित प्रश्न में प्रश्नवाचक चिन्ह (?) के स्थान पर क्या आना चाहिए?

$$40\% \text{ of } [\{(16 - 8 + 18 - 12) \times 5 - 6\} \times 2 + 3] = ?$$

Options :

- 1. ✖ 253/5
- 2. ✖ 271/5
- 3. ✖ 267/5
- 4. ✔ 262/5



Question Number : 86 Question Id : 54592722912 Question Type : MCQ Option Shuffling : Yes
Correct Marks : 1 Wrong Marks : 0.25

What should come in place of the question mark (?) in the following question?

$$[6.03 \times 9 - (207 - (303 + 129 - 198))] = ?$$

Options :

- 1. ✖ 75
- 2. ✔ 81
- 3. ✖ 84

4. ✖ 72

Question Number : 86 Question Id : 54592722912 Question Type : MCQ Option Shuffling : Yes
Correct Marks : 1 Wrong Marks : 0.25

निम्नलिखित प्रश्न में प्रश्नवाचक चिन्ह (?) के स्थान पर क्या आना चाहिए?

$$[6.03 \times 9 - (207 - (303 + 129 - 198))] = ?$$

Options :

1. ✖ 75

2. ✔ 81

3. ✖ 84

4. ✖ 72

Question Number : 87 Question Id : 54592722913 Question Type : MCQ Option Shuffling : Yes
Correct Marks : 1 Wrong Marks : 0.25

The LCM and HCF of two numbers are 264 and 2 respectively. If one of them is 22, the other is:

Options :

1. ✖ 16

2. ✖ 18

3. ✖ 12

4. ✔ 24

Question Number : 87 Question Id : 54592722913 Question Type : MCQ Option Shuffling : Yes
Correct Marks : 1 Wrong Marks : 0.25

दो संख्याओं का लघुत्तम समापवर्तक और महत्तम समापवर्तक क्रमशः 264 और 2 हैं। यदि उनमें से एक 22 है, तो दूसरा है:

Options :

1. ✖ 16

2. ✖ 18

3. ✖ 12

4. ✔ 24

Question Number : 88 Question Id : 54592722914 Question Type : MCQ Option Shuffling : Yes
Correct Marks : 1 Wrong Marks : 0.25

If $\text{LCM}(x, y, z) = (x)(y)(z)$, $\text{HCF}(y, z) = ?$

Options :

1. ✔ 1

2. ✖ 2

3. ✖ x

4. ✖ yz

Question Number : 88 Question Id : 54592722914 Question Type : MCQ Option Shuffling : Yes
Correct Marks : 1 Wrong Marks : 0.25

यदि (x, y, z) का लघुत्तम समापवर्तक $= (x)(y)(z)$, तो (y, z) का महत्तम समापवर्तक है:

Options :

1. ✔ 1

2. ✖ 2

3. ✖ x

4. ✖ yz

Question Number : 89 Question Id : 54592722915 Question Type : MCQ Option Shuffling : Yes
Correct Marks : 1 Wrong Marks : 0.25

Which of the following numbers is divisible by 11?

Options :

1. ✖ 1111111

2. ✖ 77777

3. ✔ 246642

4. ✖ 7654321

Question Number : 89 Question Id : 54592722915 Question Type : MCQ Option Shuffling : Yes
Correct Marks : 1 Wrong Marks : 0.25

निम्नलिखित में से कौन सी संख्या 11 से विभाज्य है?

Options :

1. ✖ 1111111

2. ✖ 77777

3. ✔ 246642

4. ✖ 7654321

Question Number : 90 Question Id : 54592722916 Question Type : MCQ Option Shuffling : Yes
Correct Marks : 1 Wrong Marks : 0.25

The six-digit number 25687X is divisible by 9 where X is a single digit whole number. Find X.

Options :

1. ✖ 0

2. ✖ 7

3. ✖ 9

4. ✔ 8

Question Number : 90 Question Id : 54592722916 Question Type : MCQ Option Shuffling : Yes
Correct Marks : 1 Wrong Marks : 0.25

6 अंकीय संख्या 25687X, 9 से विभाज्य है जहां X एक अंकीय पूर्ण संख्या है। X का मान ज्ञात कीजिए।

Options :

1. ✖ 0

2. ✖ 7

3. ✖ 9

4. ✔ 8

Question Number : 91 Question Id : 54592722917 Question Type : MCQ Option Shuffling : Yes
Correct Marks : 1 Wrong Marks : 0.25

Kush's bowling average (runs conceded per wicket) decreased by 0.6 runs/wicket when he took five wickets and conceded 41 runs, in a match. If his initial average was 22 runs/wicket, how many runs did he concede before his match?

Options :

1. ✖ 3300

2. ✔ 2420

3. ✖ 3630

4. ✖ 2222

Question Number : 91 Question Id : 54592722917 Question Type : MCQ Option Shuffling : Yes
Correct Marks : 1 Wrong Marks : 0.25

कुश की गेंदबाजी का औसत (प्रति विकेट के हिसाब से रन) में 0.6 रन / विकेट की कमी हुई जब उसने अगले मैच में पांच विकेट लिए और 41 रन दिए । यदि उसका शुरुआती औसत 22 रन / विकेट था, तो उसने इस मैच से पहले कितने रन दिए ?

Options :

1. ✖ 3300

2. ✔ 2420

3. ✖ 3630

4. ✖ 2222

Question Number : 92 Question Id : 54592722918 Question Type : MCQ Option Shuffling : Yes
Correct Marks : 1 Wrong Marks : 0.25

The number of students and the average score of section-A of a class are respectively equal to the average score and the number of students of section-B of the class. If the number of students of section-A and section-B are in the ratio 2:1 and the combined average score of the two sections is $41\frac{1}{2}$, which of the following is the average score of section-A?

Options :

1. ✖ 29

2. ✖ 35

3. ✔ 31

4. ✖ 26

Question Number : 92 Question Id : 54592722918 Question Type : MCQ Option Shuffling : Yes

Correct Marks : 1 Wrong Marks : 0.25

एक कक्षा के वर्ग-A में छात्रों की संख्या और अंकों का औसत क्रमशः कक्षा के वर्ग-B में अंकों के औसत और छात्रों की संख्या के बराबर है। यदि वर्ग-A और वर्ग-B के छात्रों की संख्या 2: 1 के अनुपात में है और दोनों वर्गों का संयुक्त अंकों का औसत $41\frac{1}{2}$ है, तो निम्नलिखित में से कौन सा वर्ग-A का औसत स्कोर है?

Options :

1. ✖ 29

2. ✖ 35

3. ✔ 31

4. ✖ 26

Question Number : 93 Question Id : 54592722919 Question Type : MCQ Option Shuffling : Yes

Correct Marks : 1 Wrong Marks : 0.25

A shopkeeper marked the price of an product 32.5 percent above the cost price. He allowed two successive discounts of 20 percent and 15 percent on the marked price, therefore he incurred a loss of Rs. 2178. What would be the selling price of the product if he allowed only 12 percent discount?

Options :

1. ✖ Rs. 24522

2. ✖ Rs. 30420

3. ✔ Rs. 25652

4. ✖ Rs. 22635

Question Number : 93 Question Id : 54592722919 Question Type : MCQ Option Shuffling : Yes
Correct Marks : 1 Wrong Marks : 0.25

एक दुकानदार ने उत्पाद की कीमत लागत मूल्य से 32.5 प्रतिशत अधिक चिन्हित की। उसने चिन्हित मूल्य पर 20 प्रतिशत और 15 प्रतिशत की दो क्रमिक छूट दी, इसलिए उसे 2178 रुपये का नुकसान हुआ। यदि वह केवल 12 प्रतिशत की छूट देता है तो उत्पाद का विक्रय मूल्य क्या होगा?

Options :

1. ✖ 24522 रुपये
2. ✖ 30420 रुपये
3. ✔ 25652 रुपये
4. ✖ 22635 रुपये

Question Number : 94 Question Id : 54592722920 Question Type : MCQ Option Shuffling : Yes
Correct Marks : 1 Wrong Marks : 0.25

In a month, Mayank spends $13\frac{1}{3}\%$ of his income on electricity bill, $15\frac{5}{9}\%$ of income on clothing, $18\frac{1}{3}\%$ of income on house rent, $11\frac{1}{9}\%$ on food and rest save. If the house rent was Rs.4400. What was his saving in that month?

Options :

1. ✔ Rs. 10000
2. ✖ Rs. 12000
3. ✖ Rs. 9500
4. ✖ Rs. 14500

Question Number : 94 Question Id : 54592722920 Question Type : MCQ Option Shuffling : Yes
Correct Marks : 1 Wrong Marks : 0.25

एक महीने में, मयंक अपनी आय का $13\frac{1}{3}\%$ बिजली के बिल पर खर्च करता है, कपड़ों पर $15\frac{5}{9}\%$, घर के किराये पर $18\frac{1}{3}\%$, भोजन पर $11\frac{1}{9}\%$ और शेष बचत करता है। यदि मकान का किराया रु.4400 था। उस महीने में उसकी बचत क्या थी?

Options :

1. ✔ 10000 रुपये

2. ✖ 12000 रुपये
3. ✖ 9500 रुपये
4. ✖ 14500 रुपये

Question Number : 95 Question Id : 54592722921 Question Type : MCQ Option Shuffling : Yes
Correct Marks : 1 Wrong Marks : 0.25

The price of stock A in 2018 is increased by 12 percent and the price of stock B is increased by 18 percent as compared to the price of both in 2016. If the difference between the prices of stock A and stock B in 2016 was Rs. 270 and the prices of both the stocks in 2018 are equal, then find the sum of the prices of both the stocks in 2016.

Options :

1. ✖ Rs. 955
2. ✖ Rs. 1215
3. ✓ Rs. 1035
4. ✖ Rs. 840

Question Number : 95 Question Id : 54592722921 Question Type : MCQ Option Shuffling : Yes
Correct Marks : 1 Wrong Marks : 0.25

2016 की तुलना में, 2018 में स्टॉक A की कीमत में 12 प्रतिशत की वृद्धि हुई है और स्टॉक B की कीमत में 18 प्रतिशत की। यदि 2016 में स्टॉक A और स्टॉक B की कीमतों के बीच अंतर 270 रुपये था और 2018 में दोनों शेयरों की कीमतें बराबर हैं, तो 2016 में दोनों शेयरों की कीमतों का योग क्या था?

Options :

1. ✖ 955 रुपये
2. ✖ 1215 रुपये
3. ✓ 1035 रुपये

4. ✖ 840 रुपये

Question Number : 96 Question Id : 54592722922 Question Type : MCQ Option Shuffling : Yes
Correct Marks : 1 Wrong Marks : 0.25

A person had some goats with him in 2005. He sold $33\frac{1}{3}\%$ of goats. In 2006, the number of goats increased by 40%, then he sold again $33\frac{1}{3}\%$ of goats. In 2007, the number of goats increased by 50%, then he sold again $33\frac{1}{3}\%$ of goats. In 2008 the number of goats increased by $66\frac{2}{3}\%$. If the number of goats in 2008 was 56. What was the number of goats in 2005, initially?

Options :

1. ✔ 54

2. ✖ 60

3. ✖ 48

4. ✖ 64

Question Number : 96 Question Id : 54592722922 Question Type : MCQ Option Shuffling : Yes
Correct Marks : 1 Wrong Marks : 0.25

2005 में एक व्यक्ति के पास कुछ बकरियां थीं। उसने $33\frac{1}{3}\%$ बकरियां बेचीं। 2006 में, बकरियों की संख्या में 40% की वृद्धि हुई, फिर उसने $33\frac{1}{3}\%$ बकरियों को फिर से बेच दिया। 2007 में, बकरियों की संख्या में 50% की वृद्धि हुई, फिर उसने $33\frac{1}{3}\%$ बकरियों को फिर से बेच दिया। 2008 में बकरियों की संख्या $66\frac{2}{3}\%$ बढ़ी। यदि 2008 में बकरियों की संख्या 56 थी। 2005 में, बकरियों की संख्या शुरू में क्या थी?

Options :

1. ✔ 54

2. ✖ 60

3. ✖ 48

4. ✖ 64

Question Number : 97 Question Id : 54592722923 Question Type : MCQ Option Shuffling : Yes
Correct Marks : 1 Wrong Marks : 0.25

An overall profit of 25.5 percent is to be made from the sale of two products. One of them was sold at a loss of 8.5 percent. At what profit percentage should the second product be sold, given that the cost prices of the first and the second products are in the ratio 3:5?

Options :

1. ✖ 47.2 percent
2. ✖ 53.6 percent
3. ✖ 51.4 percent
4. ✔ 45.9 percent

Question Number : 97 Question Id : 54592722923 Question Type : MCQ Option Shuffling : Yes
Correct Marks : 1 Wrong Marks : 0.25

25.5 प्रतिशत का कुल लाभ दो उत्पादों की बिक्री से किया जाना है। उनमें से एक को 8.5 प्रतिशत की हानि पर बेचा गया था। दूसरे उत्पाद को किस लाभ प्रतिशत पर बेचा जाना चाहिए, अगर पहले और दूसरे उत्पादों की लागत कीमतें 3: 5 के अनुपात में हैं?

Options :

1. ✖ 47.2 प्रतिशत
2. ✖ 53.6 प्रतिशत
3. ✖ 51.4 प्रतिशत
4. ✔ 45.9 प्रतिशत

Question Number : 98 Question Id : 54592722924 Question Type : MCQ Option Shuffling : Yes
Correct Marks : 1 Wrong Marks : 0.25

A dishonest shopkeeper takes 12.5 percent more quantity than the indicated weight when he purchased from a dealer. He gives 10 percent less quantity than the indicated weight to his customer. If shopkeeper sells the items at cost price, then find his profit percent.

Options :

1. ✖ 22 percent
2. ✖ 20 percent
3. ✔ 25 percent
4. ✖ 28 percent

Question Number : 98 Question Id : 54592722924 Question Type : MCQ Option Shuffling : Yes
Correct Marks : 1 Wrong Marks : 0.25

एक बेईमान दुकानदार, डीलर से खरीदे जाने पर संकेतित वजन से 12.5 प्रतिशत अधिक मात्रा में लेता है। वह अपने ग्राहक को संकेतित वजन की तुलना में 10 प्रतिशत कम मात्रा देता है। यदि दुकानदार लागत मूल्य पर वस्तुएं बेचता है, तो उसका लाभ प्रतिशत ज्ञात करें।

Options :

1. ✖ 22 प्रतिशत
2. ✖ 20 प्रतिशत
3. ✔ 25 प्रतिशत
4. ✖ 28 प्रतिशत

Question Number : 99 Question Id : 54592722925 Question Type : MCQ Option Shuffling : Yes
Correct Marks : 1 Wrong Marks : 0.25

A shopkeeper bought 25 laptops at Rs. 16500 each. He spent a total of Rs. 4800 on transportation. He fixed the marked price of each laptop at 40 percent above the original cost price and offered a discount 22 percent on the marked price. What is the total profit earned by shopkeeper?

Options :

1. ✔ Rs. 33150
2. ✖ Rs. 32450
3. ✖ Rs. 28900
4. ✖ Rs. 29550

Question Number : 99 Question Id : 54592722925 Question Type : MCQ Option Shuffling : Yes
Correct Marks : 1 Wrong Marks : 0.25

एक दुकानदार ने 25 लैपटॉप 16500 रुपये प्रति लैपटॉप से खरीदे। उसने परिवहन पर कुल 4800 रुपये खर्च किए। उसने प्रत्येक लैपटॉप की कीमत को मूल लागत मूल्य से 40 प्रतिशत ऊपर चिह्नित किया और चिह्नित मूल्य पर 22 प्रतिशत की छूट पेशकश की। दुकानदार द्वारा अर्जित कुल लाभ क्या है?

Options :

1. ✓ 33150 रुपये
2. ✗ 32450 रुपये
3. ✗ 28900 रुपये
4. ✗ 29550 रुपये

Question Number : 100 Question Id : 54592722926 Question Type : MCQ Option Shuffling : Yes
Correct Marks : 1 Wrong Marks : 0.25

Alish and Alex have some money with them. If Alish has Rs. 4 more and Alex has Rs. 15 less, the ratio of respective amount with them will be 3 : 5. If Alish has Rs. 10 less and Alex has Rs. 5 more, the ratio of the respective amount with them will be 4 : 11. What is the ratio of amount with Alish to Alex initially?

Options :

1. ✗ 2 : 1
2. ✗ 5 : 9
3. ✓ 10 : 21
4. ✗ 11 : 25

Question Number : 100 Question Id : 54592722926 Question Type : MCQ Option Shuffling : Yes
Correct Marks : 1 Wrong Marks : 0.25

एलीश और एलेक्स के पास कुछ पैसे हैं। अगर एलीश के पास 4 रुपये अधिक और एलेक्स के पास 15 रुपये कम हो, तो उनके साथ राशि का अनुपात 3: 5 होगा। अगर एलीश के पास 10 रुपये कम और एलेक्स के पास 5 रुपये अधिक हो, तो उनके साथ राशि का अनुपात 4 : 11 होगा । शुरू में एलीश के साथ राशि का अनुपात एलेक्स के साथ राशि से क्या होगा?

Options :

- 1. ✖ 2 : 1
- 2. ✖ 5 : 9
- 3. ✔ 10 : 21
- 4. ✖ 11 : 25

Arithmetic Ability2

Group Number :	6
Group Id :	5459271136
Group Maximum Duration :	0
Group Minimum Duration :	0
Show Attended Group? :	No
Edit Attended Group? :	No
Break time:	0
Group Marks:	20
Is this Group for Examiner?:	No
Revisit allowed for group Instructions? :	Yes
Maximum Instruction Time:	0
Minimum Instruction Time:	0

Arithmetic Ability2

Section Id :	5459271136
Section Number :	1
Section type :	Online
Mandatory or Optional:	Mandatory
Number of Questions:	20
Number of Questions to be attempted:	20
Section Marks:	20

Sub-Section Id:

5459271362

Question Shuffling Allowed :

Yes

Question Number : 101 Question Id : 54592722927 Question Type : MCQ Option Shuffling : Yes

Correct Marks : 1 Wrong Marks : 0.25

In a bag, there are some red balls and some white balls. Five red balls are withdrawn and the ratio of red balls to white balls become 7 : 6. Again two white balls are withdrawn and ratio of red balls to white balls become 5 : 4. Find the total balls in the bag initially.

Options :

1. ✓ 70

2. ✗ 60

3. ✗ 84

4. ✗ 78

Question Number : 101 Question Id : 54592722927 Question Type : MCQ Option Shuffling : Yes

Correct Marks : 1 Wrong Marks : 0.25

एक बैग में, कुछ लाल गेंदें और कुछ सफेद गेंदें हैं। पांच लाल गेंदें निकाल ली जाती हैं तो लाल गेंदों का सफेद गेंदों के साथ का अनुपात 7 : 6 हो जाता है। फिर से दो सफेद गेंदें निकाल ली जाती हैं तो लाल गेंदों का सफेद गेंदों के साथ का अनुपात 5 : 4 हो जाता है। शुरू में बैग में कुल गेंदों का पता लगाएं।

Options :

1. ✓ 70

2. ✗ 60

3. ✗ 84

4. ✗ 78

Question Number : 102 Question Id : 54592722928 Question Type : MCQ Option Shuffling : Yes

Correct Marks : 1 Wrong Marks : 0.25

There are three numbers A, B and C such that B is six more than A and 18 less than C. if A, B and C are in continued proportion. Find the sum of all the three numbers.

Options :

1. ✖ 36

2. ✔ 39

3. ✖ 45

4. ✖ 48

Question Number : 102 Question Id : 54592722928 Question Type : MCQ Option Shuffling : Yes
Correct Marks : 1 Wrong Marks : 0.25

तीन संख्याएँ हैं A, B और C ऐसी हैं कि B, A से छह अधिक है और C से 18 कम है यदि A, B और C निरंतर अनुपात में हैं। तीनों संख्याओं का योग ज्ञात कीजिए।

Options :

1. ✖ 36

2. ✔ 39

3. ✖ 45

4. ✖ 48

Question Number : 103 Question Id : 54592722929 Question Type : MCQ Option Shuffling : Yes
Correct Marks : 1 Wrong Marks : 0.25

Two sums of money in the ratio 5 : 7 are lent for a period of 5 years each. The rate of interest on the two sums are in the ratio 3 : 4 and the difference in the simple interest on two sums is Rs.1950. Find the sum of the simple interest on the two sums.

Options :

1. ✔ Rs.6450

2. ✖ Rs.5580

3. ✖ Rs.6600

4. ✖ Rs.7250

Question Number : 103 Question Id : 54592722929 Question Type : MCQ Option Shuffling : Yes

Correct Marks : 1 Wrong Marks : 0.25

5: 7 के अनुपात में दो रकम, प्रत्येक 5 साल की अवधि के लिए उधार ली जाती है। दो रकमों पर ब्याज दर 3: 4 के अनुपात में है और दो रकमों पर साधारण ब्याज में अंतर रु.1950 है। दो राशियों पर साधारण ब्याज का योग खोजें।

Options :

1. ✔ रु.6450

2. ✖ रु.5580

3. ✖ रु.6600

4. ✖ रु.7250

Question Number : 104 Question Id : 54592722930 Question Type : MCQ Option Shuffling : Yes

Correct Marks : 1 Wrong Marks : 0.25

A certain money is invested at compound interest (compounded annually) for three years. The rate of interest for the first, second and third year is 10 percent, 20 percent and 30 percent respectively. The amount after three years is Rs.14586. What is the total compound interest for the three years?

Options :

1. ✖ Rs.5566

2. ✖ Rs.6596

3. ✔ Rs.6086

4. ✖ Rs.5864

Question Number : 104 Question Id : 54592722930 Question Type : MCQ Option Shuffling : Yes

Correct Marks : 1 Wrong Marks : 0.25

एक निश्चित धनराशि को तीन साल के लिए चक्रवृद्धि ब्याज (वार्षिक समायोजित) पर लगाया जाता है। पहले, दूसरे और तीसरे वर्ष के लिए ब्याज की दर क्रमशः 10 प्रतिशत, 20 प्रतिशत और 30 प्रतिशत है। तीन साल के बाद की राशि रु.14586 है। तीन साल के लिए कुल चक्रवृद्धि ब्याज क्या है?

Options :

- 1. ✖ रु.5566
- 2. ✖ रु.6596
- 3. ✔ रु.6086
- 4. ✖ रु.5864

Question Number : 105 Question Id : 54592722931 Question Type : MCQ Option Shuffling : Yes
Correct Marks : 1 Wrong Marks : 0.25

The compound interest accrued on an amount of Rs.48000 in two years is Rs.14380.80. What would be the simple interest on Rs.18500 at the same rate for two years and 6 months?

Options :

- 1. ✔ Rs.6475
- 2. ✖ Rs.8375
- 3. ✖ Rs.5625
- 4. ✖ Rs.6125

Question Number : 105 Question Id : 54592722931 Question Type : MCQ Option Shuffling : Yes
Correct Marks : 1 Wrong Marks : 0.25

दो साल में रु.48000 की राशि पर अर्जित चक्रवृद्धि ब्याज रु.14380.80 है। दो साल और 6 महीने के लिए समान ब्याज दर पर Rs.18500 पर साधारण ब्याज क्या होगा?

Options :

- 1. ✔ रु.6475

2. ✖ ₹.8375

3. ✖ ₹.5625

4. ✖ ₹.6125

Question Number : 106 Question Id : 54592722932 Question Type : MCQ Option Shuffling : Yes
Correct Marks : 1 Wrong Marks : 0.25

If the speed of a train is 72 kmph. then how many metres are covered by it in 10 minutes and 35 second?

Options :

1. ✔ 12,700 metre

2. ✖ 18,000 metre

3. ✖ 15000 metre

4. ✖ 18,500 metre

Question Number : 106 Question Id : 54592722932 Question Type : MCQ Option Shuffling : Yes
Correct Marks : 1 Wrong Marks : 0.25

यदि ट्रेन की गति 72 किमी प्रति घंटे है तो 10 मिनट 35 सेकंड में ट्रेन द्वारा कितनी दूरी तय की जाती है?

Options :

1. ✔ 12,700 मीटर

2. ✖ 18,000 मीटर

3. ✖ 15000 मीटर

4. ✖ 18,500 मीटर

Question Number : 107 Question Id : 54592722933 Question Type : MCQ Option Shuffling : Yes
Correct Marks : 1 Wrong Marks : 0.25

A Man travelled a certain distance by car. One-third of distance travelled at 60 km/hr. Two third of remaining travelled at 50 km/hr and the rest at 70 km/hr. Find the average speed of the car.

Note: For this question, discrepancy is found in question/answer. So, this question is ignored for all candidates.

Options :

1. 50 kmph
2. 48 kmph
3. 62 kmph
4. 52 kmph

Question Number : 107 Question Id : 54592722933 Question Type : MCQ Option Shuffling : Yes

Correct Marks : 1 Wrong Marks : 0.25

एक आदमी ने कार से एक निश्चित दूरी तय की। एक तिहाई दूरी 60 किमी / घंटा से यात्रा की। शेष का दो तिहाई 50 किमी/घंटा की गति से और बाकी 75 किमी / घंटा यात्रा की गति से यात्रा की। कार की औसत गति ज्ञात करें।

Note: For this question, discrepancy is found in question/answer. So, this question is ignored for all candidates.

Options :

1. 50 किमी प्रति घंटा
2. 48 किमी प्रति घंटा
3. 62 किमी प्रति घंटा
4. 52 किमी प्रति घंटा

Question Number : 108 Question Id : 54592722934 Question Type : MCQ Option Shuffling : Yes

Correct Marks : 1 Wrong Marks : 0.25

A boat running downstream covers a distance of 36 km in 3 hours. While for covering the same distance upstream it takes 9 hours. Find the speed of the boat in still water.

Options :

1. * 9 kmph
2. * 4 kmph
3. * 6 kmph

4. ✓ 8 kmph

Question Number : 108 Question Id : 54592722934 Question Type : MCQ Option Shuffling : Yes
Correct Marks : 1 Wrong Marks : 0.25

एक नाव धारा की दिशा में 36 किमी की दूरी 3 घंटे में पूरी करती है। जबकि उसी दूरी को धारा को विपरीत दिशा में पूरा करने में उसे 9 घंटे लगते हैं। स्थिर जल में नाव की गति ज्ञात कीजिये।

Options :

1. ✖ 9 किमी/घंटा
2. ✖ 4 किमी/घंटा
3. ✖ 6 किमी/घंटा
4. ✓ 8 किमी/घंटा

Question Number : 109 Question Id : 54592722935 Question Type : MCQ Option Shuffling : Yes
Correct Marks : 1 Wrong Marks : 0.25

2 boys and 3 girls can do a work in 3 days and 3 boys and 15 girls can do the same work in 1 day. If one boy completes the full work in 4 days then a one girl can complete the same work will be:

Options :

1. ✓ 2 days
2. ✖ 3 days
3. ✖ 5 days
4. ✖ 1 days

Question Number : 109 Question Id : 54592722935 Question Type : MCQ Option Shuffling : Yes
Correct Marks : 1 Wrong Marks : 0.25

2 लड़के और 3 लड़कियाँ 3 दिन में एक काम को पूरा कर सकते हैं और 3 लड़के और 15 लड़कियाँ उसी काम को 1 दिन में कर सकते हैं। यदि एक लड़का 4 दिनों में काम को पूरा कर लेता है तो एक लड़की काम को कितने दिनों में पूरा कर सकती है:

Options :

1. ✓ 2 दिन
2. ✗ 3 दिन
3. ✗ 5 दिन
4. ✗ 1 दिन

Question Number : 110 Question Id : 54592722936 Question Type : MCQ Option Shuffling : Yes
Correct Marks : 1 Wrong Marks : 0.25

A can do a piece of work in 6 hrs. B and C can do it in 9 hrs. A and C can do it in 4 hrs. How long will B alone take to do it?

Options :

1. ✗ 10 days
2. ✗ 8 days
3. ✓ 36 days
4. ✗ 24 days

Question Number : 110 Question Id : 54592722936 Question Type : MCQ Option Shuffling : Yes
Correct Marks : 1 Wrong Marks : 0.25

A एक काम को 6 घंटे में, B और C उसी काम को 9 घंटे में कर सकते हैं। A और C इसे 4 घंटे में कर सकते हैं। B अकेले इस काम को करने में कितना समय लेगा?

Options :

1. ✗ 10 दिन
2. ✗ 8 दिन

3. ✓ 36 दिन

4. ✗ 24 दिन

Question Number : 111 Question Id : 54592722937 Question Type : MCQ Option Shuffling : Yes

Correct Marks : 1 Wrong Marks : 0.25

A, B and C contract a work for Rs. 497 together. A and B are supposed to do $\frac{5}{7}$ of the work. The amount that C gets is:

Options :

1. ✗ Rs. 100

2. ✗ Rs. 210

3. ✓ Rs. 142

4. ✗ Rs. 150

Question Number : 111 Question Id : 54592722937 Question Type : MCQ Option Shuffling : Yes

Correct Marks : 1 Wrong Marks : 0.25

A, B और C एक काम को 497 रूपयें में काम पूरा करने का ठेका लेते हैं। यदि A और B मिलकर काम का $\frac{5}{7}$ भाग पूरा करते हैं तो C का हिस्सा क्या है।

Options :

1. ✗ 100 रूपयें

2. ✗ 210 रूपयें

3. ✓ 142 रूपयें

4. ✗ 150 रूपयें

Question Number : 112 Question Id : 54592722938 Question Type : MCQ Option Shuffling : Yes

Correct Marks : 1 Wrong Marks : 0.25

The length and breadth of a rectangular field are in the ratio 3:2. A path 4 m wide running all around outside has an area of 424 square metre. The breadth (in m) of the field is:

Note: For this question, discrepancy is found in question/answer. So, this question is ignored for all candidates.

Options :

1. 28
2. 24
3. 15
4. 27

Question Number : 112 Question Id : 54592722938 Question Type : MCQ Option Shuffling : Yes
Correct Marks : 1 Wrong Marks : 0.25

किसी आयताकार क्षेत्र की लम्बाई तथा चौड़ाई का अनुपात 3:2 है। एक 4 मीटर चौड़े रास्ता जो क्षेत्र के बाहर चारों ओर है का क्षेत्रफल 424 वर्ग मी है। क्षेत्र की चौड़ाई ज्ञात करें?

Note: For this question, discrepancy is found in question/answer. So, this question is ignored for all candidates.

Options :

1. 28
2. 24
3. 15
4. 27

Question Number : 113 Question Id : 54592722939 Question Type : MCQ Option Shuffling : Yes
Correct Marks : 1 Wrong Marks : 0.25

The ratio between the length and breadth of a rectangular park is 5 : 3. If a man cycling along the boundary of the park at the speed of 12 kmph completes one round in 10 minutes, then the area of the park (in sq.metre) is:

Options :

1. ✖ 15360
2. ✔ 234375
3. ✖ 307200
4. ✖ 23475

Question Number : 113 Question Id : 54592722939 Question Type : MCQ Option Shuffling : Yes

Correct Marks : 1 Wrong Marks : 0.25

एक आयतापर उद्यान की लम्बाई और चौड़ाई के मध्य 3 : 2 का अनुपात है। यदि एक व्यक्ति उद्यान की सीमा पर 12 किमी प्रति घंटे की गति से साइकिल चलाकर 10 मिनट में एक चक्कर पूरा कर लेता है, तो उद्यान का क्षेत्रफल (वर्ग मीटर में) है:

Options :

1. ✖ 15360
2. ✔ 234375
3. ✖ 307200
4. ✖ 23475

Question Number : 114 Question Id : 54592722940 Question Type : MCQ Option Shuffling : Yes

Correct Marks : 1 Wrong Marks : 0.25

A sphere with radius 7 cm is cut into two equal parts. Find the total surface area of both the parts.

Options :

1. ✖ 880 sq cm
2. ✖ 852 sq cm
3. ✔ 924 sq cm
4. ✖ 1104 sq cm

Question Number : 114 Question Id : 54592722940 Question Type : MCQ Option Shuffling : Yes

Correct Marks : 1 Wrong Marks : 0.25

7 सेमी त्रिज्या के एक गोले को दो समान भागों में काट दिया जाता है। दोनों भागों का कुल सतह क्षेत्रफल ज्ञात कीजिए।

Options :

1. ✖ 880 वर्ग सेमी
2. ✖ 852 वर्ग सेमी
3. ✔ 924 वर्ग सेमी

4. ✖ 1104 वर्ग सेमी

Question Number : 115 Question Id : 54592722941 Question Type : MCQ Option Shuffling : Yes
Correct Marks : 1 Wrong Marks : 0.25

The following shows the courier charges (in Rs.) for sending a 1 kg parcel from one city to another study the table carefully and answer the questions that follow:
Courier charges for sending parcels

Cities	Allahabad	Mumbai	Kolkata	Delhi	Lucknow
Allahabad	-	10	5	15	10
Mumbai	10	-	7	25	20
Kolkata	5	7	-	20	15
Delhi	15	25	20	-	10
Lucknow	10	20	15	10	-

Among the following, the charges will be least for sending a parcel from Mumbai to_____.

- Options :
1. ✖ Allahabad
2. ✔ Kolkata
3. ✖ Delhi
4. ✖ Lucknow

Question Number : 115 Question Id : 54592722941 Question Type : MCQ Option Shuffling : Yes
Correct Marks : 1 Wrong Marks : 0.25

निम्नलिखित एक शहर से दूसरे शहर में 1 किलो पार्सल भेजने के लिए कूरियर शुल्क (रुपयें में) दर्शाता है तालिका का सावधानीपूर्वक अध्ययन करें और निम्नलिखित प्रश्नों का उत्तर दें:

पार्सल भेजने के लिए कूरियर शुल्क

शहर	इलाहाबाद	मुंबई	कोलकाता	दिल्ली	लखनऊ
इलाहाबाद	-	10	5	15	10
मुंबई	10	-	7	25	20
कोलकाता	5	7	-	20	15
दिल्ली	15	25	20	-	10
लखनऊ	10	20	15	10	-

निम्नलिखित में से, मुंबई से _____ के लिए पार्सल भेजने के लिए शुल्क कम से कम होंगे।

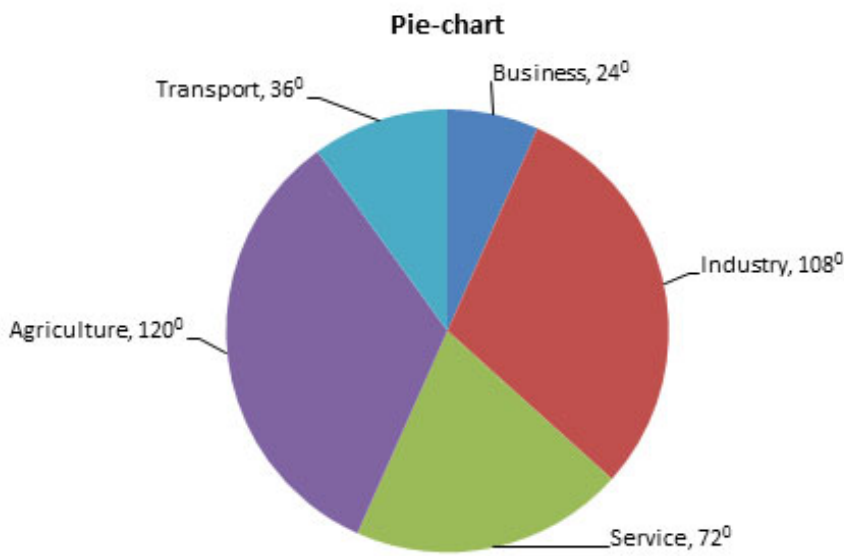
Options :

- ✖ इलाहाबाद
- ✓ कोलकाता
- ✖ दिल्ली
- ✖ लखनऊ

Question Number : 116 Question Id : 54592722942 Question Type : MCQ Option Shuffling : Yes

Correct Marks : 1 Wrong Marks : 0.25

The population of a city is 7,20,000. They have done various types of business which is given below by chart.



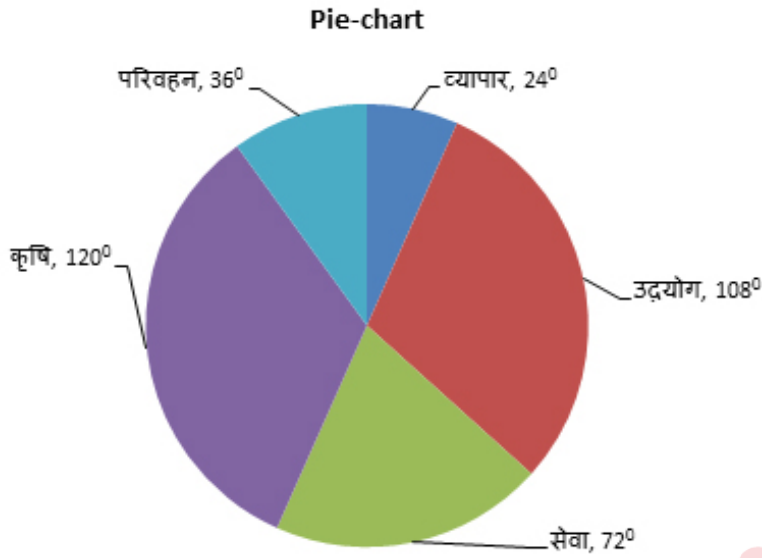
How much population percent are less in industry than in agriculture?

Options :

1. ✖ 20 percent
2. ✔ 10 percent
3. ✖ 15 percent
4. ✖ 25 percent

Question Number : 116 Question Id : 54592722942 Question Type : MCQ Option Shuffling : Yes
Correct Marks : 1 Wrong Marks : 0.25

एक नगर की जनसंख्या 7,20,000 है। विभिन्न व्यवसायी निम्नलिखित वृत्त-चित्र में प्रदर्शित किये गये हैं।



कृषि से कितने कम प्रतिशत जनसंख्या उद्योग में काम करती है?

Options :

1. ✗ 20 प्रतिशत
2. ✓ 10 प्रतिशत
3. ✗ 15 प्रतिशत
4. ✗ 25 प्रतिशत

Question Number : 117 Question Id : 54592722943 Question Type : MCQ Option Shuffling : Yes

Correct Marks : 1 Wrong Marks : 0.25

Table shows the number of articles sold by six different sellers (A, B, C,D, E and F) to two different shopkeepers P and Q. Some articles are purchased by other sellers also. Total articles purchased by shopkeepers P and Q is 300 and 500 respectively.

Seller	P	Q
A	45	56
B	53	49
C	28	44
D	38	38
E	35	65
F	55	60

What is the difference between total articles sold to P and Q by all the sellers other than A, B, C, D, E and F?

Options :

1. ✖ 172

2. ✖ 162

3. ✖ 152

4. ✔ 142

Question Number : 117 Question Id : 54592722943 Question Type : MCQ Option Shuffling : Yes
Correct Marks : 1 Wrong Marks : 0.25

तालिका छः अलग-अलग विक्रेताओं (A, B, C, D, E और F) वारा दो अलग-अलग दकानदारों P और Q को बेचीं गई वस्तुओं की संख्या को दर्शाया गया है। कुछ वस्तुएँ अन्य विक्रेताओं द्वारा भी खरीदी जाती हैं। दकानदारों P और Q द्वारा खरीदी गई कुल वस्तुएँ क्रमशः 300 और 500 हैं।

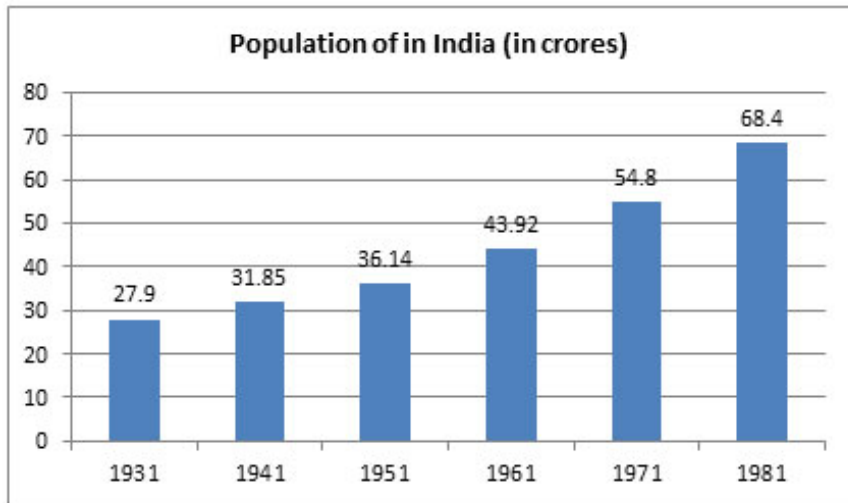
विक्रेता	P	Q
A	45	56
B	53	49
C	28	44
D	38	38
E	35	65
F	55	60

A, B, C, D, E और F के सभी विक्रेताओं द्वारा दुकानदार P और Q को बेची गई है कुल वस्तुओं के बीच कितना अंतर है?

Options :

- ✖ 172
- ✖ 162
- ✖ 152
- ✓ 142

The following graph gives the population in India for the years 1931 to 1981. Study the graph and answer the questions that follow.



The average increase (per year) from 1931 to 1981 is:

Options :

1. ✓ 0.81

2. ✗ 0.76

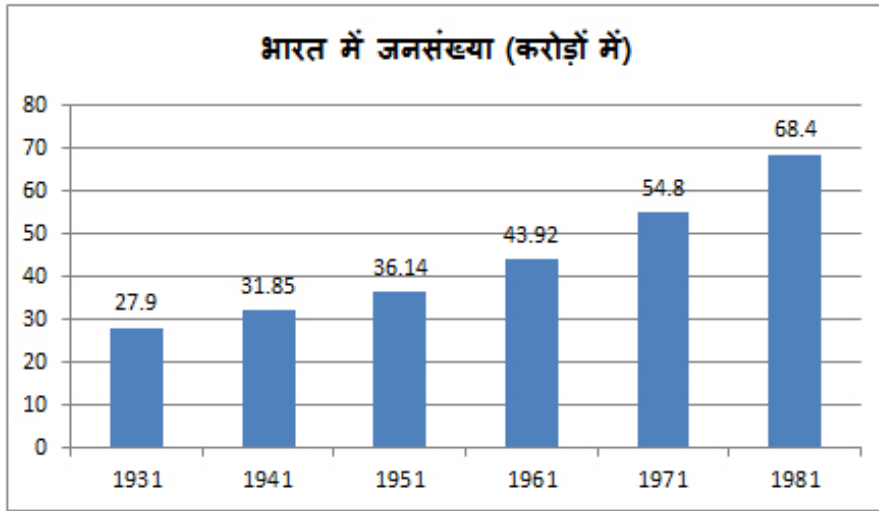
3. ✗ 0.89

4. ✗ 0.67

Question Number : 118 Question Id : 54592722944 Question Type : MCQ Option Shuffling : Yes

Correct Marks : 1 Wrong Marks : 0.25

निम्नलिखित ग्राफ भारत में 1931 से 1981 तक की आबादी को दर्शाता है। ग्राफ का अध्ययन करें और प्रश्नों के उत्तर दें।



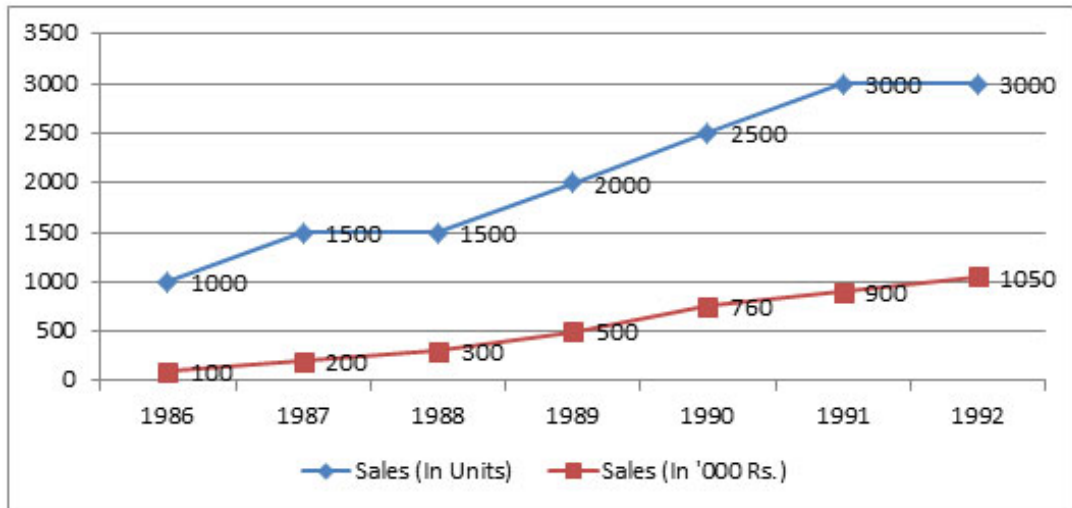
1931 से 1981 तक औसत वृद्धि (प्रति वर्ष) है:

Options :

1. ✓ 0.81
2. ✗ 0.76
3. ✗ 0.89
4. ✗ 0.67

Question Number : 119 Question Id : 54592722945 Question Type : MCQ Option Shuffling : Yes
Correct Marks : 1 Wrong Marks : 0.25

The given chart shows the sales of pistons in units as well as in '000 Rupees for years 1986 to 1992. Refer to the data below and answer the questions that follow:



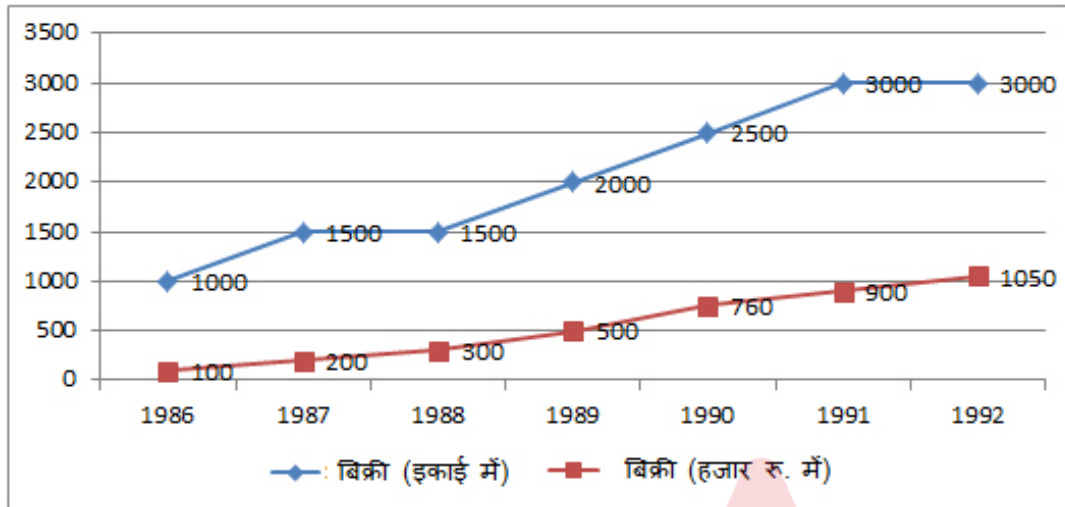
Maximum percentage rise in rupee sales in any year was in:

Options :

1. ✓ 1987
2. ✗ 1989
3. ✗ 1990
4. ✗ 1991

Question Number : 119 Question Id : 54592722945 Question Type : MCQ Option Shuffling : Yes
Correct Marks : 1 Wrong Marks : 0.25

दिए गए चार्ट इकाइयों में पिस्टन की बिक्री के साथ-साथ 1986 से 1992 के वर्षों के लिए 000 रुपये में दर्शाया गया है। नीचे दिए गए डेटा के संदर्भ में निम्नलिखित प्रश्नों के उत्तर दें:



किस वर्ष में रुपये की बिक्री में अधिकतम प्रतिशत वृद्धि हुई थी:

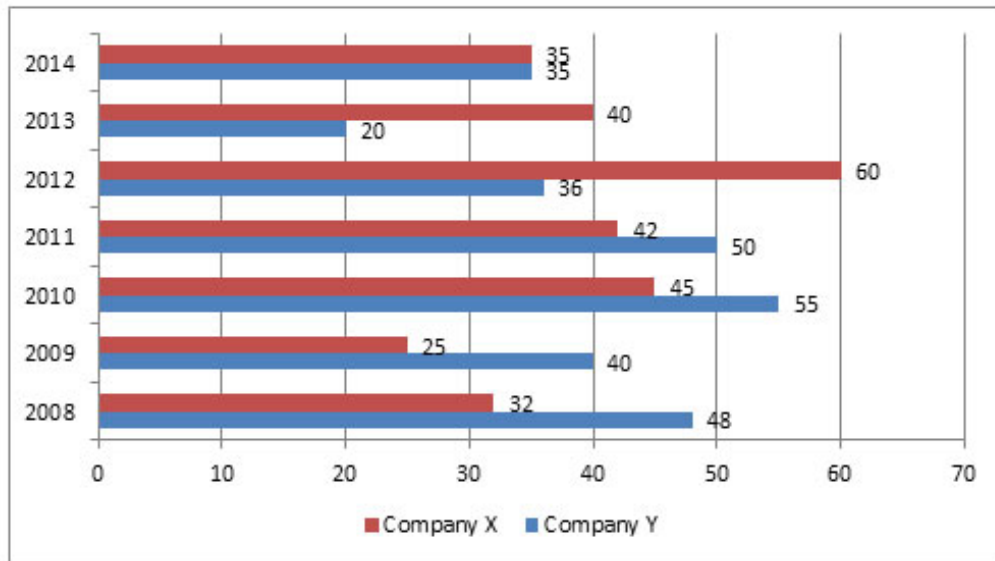
Options :

1. ✓ 1987
2. ✗ 1989
3. ✗ 1990
4. ✗ 1991

Question Number : 120 Question Id : 54592722946 Question Type : MCQ Option Shuffling : Yes

Correct Marks : 1 Wrong Marks : 0.25

Following Bar-graph shows the percentage profit earned by two companies X and Y during the period of 2008 to 2014.



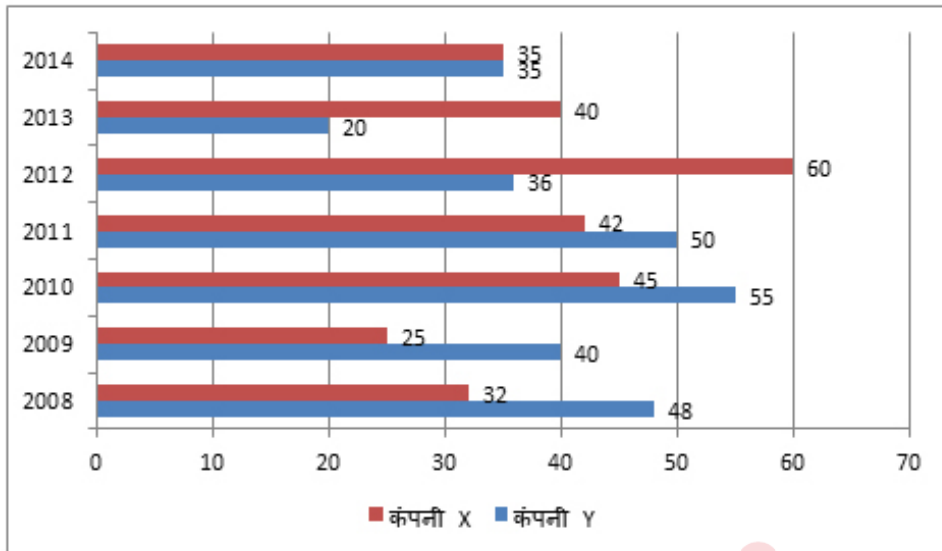
If the total income of Company Y in 2009 and that of Company X in 2013 together is Rs.133 lakh, what is the sum of the expenditure of Y in 2009 and the expenditure of X in the year 2013?

Options :

1. ✓ Rs.95 lakh
2. ✗ Rs.133 lakh
3. ✗ Rs.186.2 lakh
4. ✗ Rs.3.1 lakh

Question Number : 120 Question Id : 54592722946 Question Type : MCQ Option Shuffling : Yes
Correct Marks : 1 Wrong Marks : 0.25

निम्नलिखित बार-ग्राफ 2008 से 2014 की अवधि के दौरान दो कंपनियों X और Y द्वारा अर्जित प्रतिशत लाभ को दर्शाता है।



यदि 2009 में कंपनी Y और 2013 में कंपनी X की कुल आय रु.133 लाख है, तो 2009 में Y के व्यय और वर्ष 2013 में X के व्यय का कुल योग कितना होगा?

Options :

1. ✓ रु.95 लाख
2. ✗ रु.133 लाख
3. ✗ रु.186.2 लाख
4. ✗ रु.3.1 लाख

General English1

Group Number :	7
Group Id :	5459271137
Group Maximum Duration :	0
Group Minimum Duration :	0
Show Attended Group? :	No
Edit Attended Group? :	No
Break time:	0
Group Marks:	20

Is this Group for Examiner?:	No
Revisit allowed for group Instructions? :	Yes
Maximum Instruction Time:	0
Minimum Instruction Time:	0

General English1

Section Id :	5459271137
Section Number :	1
Section type :	Online
Mandatory or Optional:	Mandatory
Number of Questions:	20
Number of Questions to be attempted:	20
Section Marks:	20

Sub-Section Number:	1
Sub-Section Id:	5459271363
Question Shuffling Allowed :	Yes

Question Number : 121 Question Id : 54592722947 Question Type : MCQ Option Shuffling : Yes
Correct Marks : 1 Wrong Marks : 0.25

Select the grammatically INCORRECT sentence.

Options :

- 1. ✖ About 70 species of fish live in the river.
- 2. ✖ The new law takes effect in July 2020.
- 3. ✖ Small paper bags are exempted from the penalty.
- 4. ✔ Multiple states have ban one or more of these plastics.

Question Number : 121 Question Id : 54592722947 Question Type : MCQ Option Shuffling : Yes
Correct Marks : 1 Wrong Marks : 0.25

Select the grammatically INCORRECT sentence.

Options :

- 1. ✖ About 70 species of fish live in the river.
- 2. ✖ The new law takes effect in July 2020.
- 3. ✖ Small paper bags are exempted from the penalty.
- 4. ✔ Multiple states have ban one or more of these plastics.

Question Number : 122 Question Id : 54592722948 Question Type : MCQ Option Shuffling : Yes
Correct Marks : 1 Wrong Marks : 0.25

Select the grammatically INCORRECT sentence.

Options :

1. ✖ Grizzly bears, clearly, can be dangerous animals.
2. ✖ Ordinary volcanoes occur along the edges of tectonic plates.
3. ✔ The park was orphan idea with no clarity of purpose.
4. ✖ Yellowstone is a great public attraction promising to bring visitors.

Question Number : 122 Question Id : 54592722948 Question Type : MCQ Option Shuffling : Yes
Correct Marks : 1 Wrong Marks : 0.25

Select the grammatically INCORRECT sentence.

Options :

1. ✖ Grizzly bears, clearly, can be dangerous animals.
2. ✖ Ordinary volcanoes occur along the edges of tectonic plates.
3. ✔ The park was orphan idea with no clarity of purpose.
4. ✖ Yellowstone is a great public attraction promising to bring visitors.

Question Number : 123 Question Id : 54592722949 Question Type : MCQ Option Shuffling : Yes
Correct Marks : 1 Wrong Marks : 0.25

Select the grammatically INCORRECT sentence

Options :

1. ✖ He suggests that steps must be taken to preserve such an incredible landscape.
2. ✔ If you don't watch news how will you known what is happening in the world?

3. ✖ Sometimes customers will come and ask very intelligent and relevant question.
4. ✖ The fan is not working because of short circuit.

Question Number : 123 Question Id : 54592722949 Question Type : MCQ Option Shuffling : Yes
Correct Marks : 1 Wrong Marks : 0.25

Select the grammatically INCORRECT sentence

Options :

1. ✖ He suggests that steps must be taken to preserve such an incredible landscape.
2. ✔ If you don't watch news how will you known what is happening in the world?
3. ✖ Sometimes customers will come and ask very intelligent and relevant question.
4. ✖ The fan is not working because of some short circuit.

Question Number : 124 Question Id : 54592722950 Question Type : MCQ Option Shuffling : Yes
Correct Marks : 1 Wrong Marks : 0.25

Select the grammatically INCORRECT sentence

Options :

1. ✔ Yellowstone Volcano Observatory reports that the cause in the series is unknown.
2. ✖ Yellowstone National Park is home to 500 geysers, roughly half of Earth's total.
3. ✖ Steamboat Geyser, is the most powerful and tallest active geyser in the world.
4. ✖ The more slowly the disease spreads, the stronger the genes

Question Number : 124 Question Id : 54592722950 Question Type : MCQ Option Shuffling : Yes

Correct Marks : 1 Wrong Marks : 0.25

Select the grammatically INCORRECT sentence

Options :

1. ✓ Yellowstone Volcano Observatory reports that the cause in the series is unknown.
2. ✖ Yellowstone National Park is home to 500 geysers, roughly half of Earth's total.
3. ✖ Steamboat Geyser, is the most powerful and tallest active geyser in the world.
4. ✖ The more slowly the disease spreads, the stronger the genes

Question Number : 125 Question Id : 54592722951 Question Type : MCQ Option Shuffling : Yes

Correct Marks : 1 Wrong Marks : 0.25

Select the grammatically INCORRECT sentence

Options :

1. ✖ News today is a major negative and has a huge impact on everyone who watches it.
2. ✖ The project is bound to open up a new window to the plant's molecular secrets.
3. ✖ Like a good novel, most cricket innings have a beginning, a middle and an end.
4. ✓ If India has looked best team so far, it has to do with their ability and performance.

Question Number : 125 Question Id : 54592722951 Question Type : MCQ Option Shuffling : Yes

Correct Marks : 1 Wrong Marks : 0.25

Select the grammatically INCORRECT sentence

Options :

1. ✖ News today is a major negative and has a huge impact on everyone who watches it.
2. ✖ The project is bound to open up a new window to the plant's molecular secrets.
3. ✖ Like a good novel, most cricket innings have a beginning, a middle and an end.
4. ✔ If India has looked best team so far, it has to do with their ability and performance.

Question Number : 126 Question Id : 54592722952 Question Type : MCQ Option Shuffling : Yes
Correct Marks : 1 Wrong Marks : 0.25

Select the most appropriate option to substitute the underlined segment in the given sentence. If there is no need to substitute it, select option No substitution required.

The concept of a selfie is directly linked to internet culture and the human desire to interact on social platforms.

Options :

1. ✖ is directly link on
2. ✖ are directly linked to
3. ✖ is direct link to
4. ✔ No substitution required

Question Number : 126 Question Id : 54592722952 Question Type : MCQ Option Shuffling : Yes
Correct Marks : 1 Wrong Marks : 0.25

Select the most appropriate option to substitute the underlined segment in the given sentence. If there is no need to substitute it, select option No substitution required .

The concept of a selfie is directly linked to internet culture and the human desire to interact on social platforms.

Options :

1. ✖ is directly link on
2. ✖ are directly linked to
3. ✖ is direct link to
4. ✔ No substitution required

Question Number : 127 Question Id : 54592722953 Question Type : MCQ Option Shuffling : Yes
Correct Marks : 1 Wrong Marks : 0.25

Select the most appropriate option to substitute the underlined segment in the given sentence. If there is no need to substitute it, select option No substitution required.

Cameras used in space needs to survived extreme conditions, like temperature swings from -149° to 248°F.

Options :

1. ✖ needs to survive
2. ✖ needing to survived
3. ✔ need to survive
4. ✖ No substitution required

Question Number : 127 Question Id : 54592722953 Question Type : MCQ Option Shuffling : Yes
Correct Marks : 1 Wrong Marks : 0.25

Select the most appropriate option to substitute the underlined segment in the given sentence. If there is no need to substitute it, select option No substitution required .

Cameras used in space needs to survived. extreme conditions, like temperature swings from -149° to 248°F .

Options :

1. ✖ needs to survive
2. ✖ needing to survived
3. ✔ need to survive
4. ✖ No substitution required

Question Number : 128 Question Id : 54592722954 Question Type : MCQ Option Shuffling : Yes
Correct Marks : 1 Wrong Marks : 0.25

Select the most appropriate option to substitute the underlined segment in the given sentence. If there is no need to substitute it, select option No substitution required.

Scientists don't know at exact time it take for Teegarden's star to rotate on its axis.

Options :

1. ✖ the exacting time that take
2. ✖ an exact time it took
3. ✔ the exact time it takes
4. ✖ No substitution required

Question Number : 128 Question Id : 54592722954 Question Type : MCQ Option Shuffling : Yes
Correct Marks : 1 Wrong Marks : 0.25

Select the most appropriate option to substitute the underlined segment in the given sentence. If there is no need to substitute it, select option No substitution required .

Scientists don't know at exact time it take for Teegarden's star to rotate on its axis.

Options :

1. ✖ the exacting time that take
2. ✖ an exact time it took
3. ✔ the exact time it takes
4. ✖ No substitution required

Question Number : 129 Question Id : 54592722955 Question Type : MCQ Option Shuffling : Yes
Correct Marks : 1 Wrong Marks : 0.25

Select the most appropriate option to substitute the underlined segment in the given sentence. If there is no need to substitute it, select option No substitution required.

Cities and city residents can be grew 30 percent of the milkweed plants monarch butterflies need to survive.

Options :

1. ✖ might be grow a 30 percent of
2. ✔ could grow 30 percent of
3. ✖ could grown 30 percent of
4. ✖ No substitution required

Question Number : 129 Question Id : 54592722955 Question Type : MCQ Option Shuffling : Yes
Correct Marks : 1 Wrong Marks : 0.25

Select the most appropriate option to substitute the underlined segment in the given sentence. If there is no need to substitute it, select option No substitution required .

Cities and city residents can be grew 30 percent of the milkweed plants monarch butterflies need to survive.

Options :

1. ✖ might be grow a 30 percent of
2. ✔ could grow 30 percent of
3. ✖ could grown 30 percent of
4. ✖ No substitution required

Question Number : 130 Question Id : 54592722956 Question Type : MCQ Option Shuffling : Yes
Correct Marks : 1 Wrong Marks : 0.25

Select the most appropriate option to substitute the underlined segment in the given sentence. If there is no need to substitute it, select option No substitution required.

Studies show green spaces make people happier and healthier.

Options :

1. ✖ makes people more happier and more healthier
2. ✖ made people happy and healthier
3. ✖ made people happier and healthy
4. ✔ No substitution required

Question Number : 130 Question Id : 54592722956 Question Type : MCQ Option Shuffling : Yes
Correct Marks : 1 Wrong Marks : 0.25

Select the most appropriate option to substitute the underlined segment in the given sentence. If there is no need to substitute it, select option No substitution required .

Studies show green spaces make people happier and healthier.

Options :

1. ✖ makes people more happier and more healthier
2. ✖ made people happy and healthier
3. ✖ made people happier and healthy
4. ✔ No substitution required

Question Number : 131 Question Id : 54592722957 Question Type : MCQ Option Shuffling : Yes
Correct Marks : 1 Wrong Marks : 0.25

Select the most appropriate word to fill in the blank.

Tundra plants have developed adaptations that _____ them thrive in this harsh climate.

Options :

1. ✔ help
2. ✖ helps
3. ✖ helping
4. ✖ helped

Question Number : 131 Question Id : 54592722957 Question Type : MCQ Option Shuffling : Yes
Correct Marks : 1 Wrong Marks : 0.25

Select the most appropriate word to fill in the blank.

Tundra plants have developed adaptations that _____ them thrive in this harsh climate.

Options :

1. ✓ help
2. ✗ helps
3. ✗ helping
4. ✗ helped

Question Number : 132 Question Id : 54592722958 Question Type : MCQ Option Shuffling : Yes
Correct Marks : 1 Wrong Marks : 0.25

Select the most appropriate word to fill in the blank.

Arctic clouds are particularly sensitive _____ air pollution, which spurs cloud formation and has a blanketing effect.

Options :

1. ✗ of
2. ✓ to
3. ✗ with
4. ✗ for

Question Number : 132 Question Id : 54592722958 Question Type : MCQ Option Shuffling : Yes
Correct Marks : 1 Wrong Marks : 0.25

Select the most appropriate word to fill in the blank.

Arctic clouds are particularly sensitive _____ air pollution, which spurs cloud formation and has a blanketing effect.

Options :

1. ✖ of
2. ✔ to
3. ✖ with
4. ✖ for

Question Number : 133 Question Id : 54592722959 Question Type : MCQ Option Shuffling : Yes
Correct Marks : 1 Wrong Marks : 0.25

Select the most appropriate word to fill in the blank.

Chemicals used in coolants and aerosol sprays have _____ ozone depletion at the North and the South Poles.

Options :

1. ✖ drive
2. ✖ drove
3. ✔ driven
4. ✖ drew

Question Number : 133 Question Id : 54592722959 Question Type : MCQ Option Shuffling : Yes
Correct Marks : 1 Wrong Marks : 0.25

Select the most appropriate word to fill in the blank.

Chemicals used in coolants and aerosol sprays have _____ ozone depletion at the North and the South Poles.

Options :

1. ✖ drive
2. ✖ drove
3. ✔ driven
4. ✖ drew

Question Number : 134 Question Id : 54592722960 Question Type : MCQ Option Shuffling : Yes
Correct Marks : 1 Wrong Marks : 0.25

Select the most appropriate word to fill in the blank.

The red fox, which is typically found _____ south, is moving north onto the tundra and competing with the Arctic fox for food and territory.

Options :

1. ✖ onwards
2. ✖ inwards
3. ✖ further
4. ✔ farther

Question Number : 134 Question Id : 54592722960 Question Type : MCQ Option Shuffling : Yes
Correct Marks : 1 Wrong Marks : 0.25

Select the most appropriate word to fill in the blank.

The red fox, which is typically found _____ south, is moving north onto the tundra and competing with the Arctic fox for food and territory.

Options :

1. ✖ onwards
2. ✖ inwards
3. ✖ further
4. ✔ farther

Question Number : 135 Question Id : 54592722961 Question Type : MCQ Option Shuffling : Yes
Correct Marks : 1 Wrong Marks : 0.25

Select the most appropriate word to fill in the blank.

Cutting harmful, planet-warming pollution by switching _____ fossil fuels is key to safeguarding Earth's tundra habitats.

Options :

1. ✓ away from
2. ✗ distance from
3. ✗ near to
4. ✗ instead of

Question Number : 135 Question Id : 54592722961 Question Type : MCQ Option Shuffling : Yes

Correct Marks : 1 Wrong Marks : 0.25

Select the most appropriate word to fill in the blank.

Cutting harmful, planet-warming pollution by switching _____ fossil fuels is key to safeguarding Earth's tundra habitats.

Options :

1. ✓ away from
2. ✗ distance from
3. ✗ near to
4. ✗ instead of

Question Number : 136 Question Id : 54592722962 Question Type : MCQ Option Shuffling : Yes

Correct Marks : 1 Wrong Marks : 0.25

Select the most appropriate word to fill in the blank.

Through the struggle, the tribe has managed _____ their language, their animist worldview, and their nomadic traditions.

Options :

1. ✖ sustain
2. ✔ to sustain
3. ✖ in sustaining
4. ✖ for sustaining

Question Number : 136 Question Id : 54592722962 Question Type : MCQ Option Shuffling : Yes
Correct Marks : 1 Wrong Marks : 0.25

Select the most appropriate word to fill in the blank.

Through the struggle, the tribe has managed _____ their language, their animist worldview, and their nomadic traditions.

Options :

1. ✖ sustain
2. ✔ to sustain
3. ✖ in sustaining
4. ✖ for sustaining

Question Number : 137 Question Id : 54592722963 Question Type : MCQ Option Shuffling : Yes
Correct Marks : 1 Wrong Marks : 0.25

Select the most appropriate word to fill in the blank.

_____ the species' survival is certain, conservationists won't tell anyone where they are.

Options :

- 1. ✖ If
- 2. ✖ Though
- 3. ✔ Until
- 4. ✖ Since

Question Number : 137 Question Id : 54592722963 Question Type : MCQ Option Shuffling : Yes
Correct Marks : 1 Wrong Marks : 0.25

Select the most appropriate word to fill in the blank.

_____ the species' survival is certain, conservationists won't tell anyone where they are.

Options :

- 1. ✖ If
- 2. ✖ Though
- 3. ✔ Until
- 4. ✖ Since

Question Number : 138 Question Id : 54592722964 Question Type : MCQ Option Shuffling : Yes
Correct Marks : 1 Wrong Marks : 0.25

Select the most appropriate word to fill in the blank.

A tree's role in an ecosystem is _____ complex, that if you reengineer a species even a little bit, it can have unintended consequences.

Options :

1. ✖ very
2. ✖ highly
3. ✖ rarely
4. ✔ so

Question Number : 138 Question Id : 54592722964 Question Type : MCQ Option Shuffling : Yes
Correct Marks : 1 Wrong Marks : 0.25

Select the most appropriate word to fill in the blank.

A tree's role in an ecosystem is _____ complex, that if you reengineer a species even a little bit, it can have unintended consequences.

Options :

1. ✖ very
2. ✖ highly
3. ✖ rarely
4. ✔ so

Question Number : 139 Question Id : 54592722965 Question Type : MCQ Option Shuffling : Yes
Correct Marks : 1 Wrong Marks : 0.25

Parts of a sentence have been jumbled up. Arrange these parts in a meaningful order.

- A. once one of the dirtiest in the U.S,
- B. has seen a resurgence of life
- C. both on the surface and below
- D. Cleveland's Cuyahoga River,

Options :

1. ✔ DABC

2. ✖ DACB

3. ✖ DCBA

4. ✖ DBAC

Question Number : 139 Question Id : 54592722965 Question Type : MCQ Option Shuffling : Yes
Correct Marks : 1 Wrong Marks : 0.25

Parts of a sentence have been jumbled up. Arrange these parts in a meaningful order.

- A. once one of the dirtiest in the U.S,
- B. has seen a resurgence of life
- C. both on the surface and below
- D. Cleveland's Cuyahoga River,

Options :

1. ✔ DABC

2. ✖ DACB

3. ✖ DCBA

4. ✖ DBAC

Question Number : 140 Question Id : 54592722966 Question Type : MCQ Option Shuffling : Yes
Correct Marks : 1 Wrong Marks : 0.25

Arrange the jumbled sentences to make a meaningful paragraph.

- A. Nowhere on Earth has such a stunning display of wildlife, matched with an incredible assortment of geologic activity in the form of hot springs and geysers.
- B. Yellowstone National Park - People have long been enchanted by this land.
- C. It really is, as it was referred to in its early days, a wonderland.
- D. and it's easy to see why.

Options :

1. ✖ BDCA
2. ✔ BDAC
3. ✖ ABCD
4. ✖ BCAD

Question Number : 140 Question Id : 54592722966 Question Type : MCQ Option Shuffling : Yes
Correct Marks : 1 Wrong Marks : 0.25

Arrange the jumbled sentences to make a meaningful paragraph.

- A. Nowhere on Earth has such a stunning display of wildlife, matched with an incredible assortment of geologic activity in the form of hot springs and geysers.
- B. Near Yellowstone National Park - People have long been enchanted by this land.
- C. It really is, as it was referred to in its early days, a wonderland.
- D. and it's easy to see why.

Options :

- 1. ✖ BDCA
- 2. ✔ BDAC
- 3. ✖ ABCD
- 4. ✖ BCAD



General English2

Group Number :	8
Group Id :	5459271138
Group Maximum Duration :	0
Group Minimum Duration :	0
Show Attended Group? :	No
Edit Attended Group? :	No
Break time:	0
Group Marks:	20
Is this Group for Examiner?:	No
Revisit allowed for group Instructions? :	Yes
Maximum Instruction Time:	0
Minimum Instruction Time:	0

General English2

Section Id :	5459271138
Section Number :	1
Section type :	Online
Mandatory or Optional:	Mandatory
Number of Questions:	16
Number of Questions to be attempted:	16
Section Marks:	20

Sub-Section Number:	1
Sub-Section Id:	5459271364
Question Shuffling Allowed :	Yes

Question Number : 141 Question Id : 54592722967 Question Type : MCQ Option Shuffling : Yes
Correct Marks : 1 Wrong Marks : 0.25

Parts of a sentence have been jumbled up. Arrange these parts in a meaningful order.

- A. aboard space vehicles since the 1960s,
- B. and they’ve taken plenty of
- C. Astronauts have been carrying cameras
- D. pictures of themselves along the way.

Options :

- 1. ✖ CBAD
- 2. ✖ CADB
- 3. ✔ CABD
- 4. ✖ CDBA

Question Number : 141 Question Id : 54592722967 Question Type : MCQ Option Shuffling : Yes
Correct Marks : 1 Wrong Marks : 0.25

Parts of a sentence have been jumbled up. Arrange these parts in a meaningful order.

- A. aboard space vehicles since the 1960s,
- B. and they've taken plenty of
- C. Astronauts have been carrying cameras
- D. pictures of themselves along the way.

Options :

- 1. ✖ CBAD
- 2. ✖ CADB
- 3. ✔ CABD
- 4. ✖ CDBA

Question Number : 142 Question Id : 54592722968 Question Type : MCQ Option Shuffling : Yes
Correct Marks : 1 Wrong Marks : 0.25

Select the most appropriate synonym of the given word.

Abundant

Options :

- 1. ✔ Plentiful
- 2. ✖ Impressive
- 3. ✖ Cautious
- 4. ✖ Audacious

Question Number : 142 Question Id : 54592722968 Question Type : MCQ Option Shuffling : Yes
Correct Marks : 1 Wrong Marks : 0.25

Select the most appropriate synonym of the given word.

Abundant

Options :

1. ✓ Plentiful
2. ✗ Impressive
3. ✗ Cautious
4. ✗ Audacious

Question Number : 143 Question Id : 54592722969 Question Type : MCQ Option Shuffling : Yes
Correct Marks : 1 Wrong Marks : 0.25

Select the most appropriate antonym of the given word.

Authentic

Options :

1. ✗ Accurate
2. ✓ Falsified
3. ✗ Tangible
4. ✗ Learned

Question Number : 143 Question Id : 54592722969 Question Type : MCQ Option Shuffling : Yes
Correct Marks : 1 Wrong Marks : 0.25

Select the most appropriate antonym of the given word.

Authentic

Options :

1. ✗ Accurate
2. ✓ Falsified

3. ✖ Tangible

4. ✖ Learned

Question Number : 144 Question Id : 54592722970 Question Type : MCQ Option Shuffling : Yes
Correct Marks : 1 Wrong Marks : 0.25

Select the most appropriate synonym of the given word.

Triumph

Options :

1. ✖ Dominant

2. ✖ Extraordinary

3. ✔ A great victory

4. ✖ Nuisance

Question Number : 144 Question Id : 54592722970 Question Type : MCQ Option Shuffling : Yes
Correct Marks : 1 Wrong Marks : 0.25

Select the most appropriate synonym of the given word.

Triumph

Options :

1. ✖ Dominant

2. ✖ Extraordinary

3. ✔ A great victory

4. ✖ Nuisance

Question Number : 145 Question Id : 54592722971 Question Type : MCQ Option Shuffling : Yes
Correct Marks : 1 Wrong Marks : 0.25

Select the most appropriate antonym of the given word.

Dauntless

Options :

1. ✓ Cowardly
2. ✗ Assured
3. ✗ Unusual
4. ✗ Noticeable

Question Number : 145 Question Id : 54592722971 Question Type : MCQ Option Shuffling : Yes
Correct Marks : 1 Wrong Marks : 0.25

Select the most appropriate antonym of the given word.

Dauntless

Options :

1. ✓ Cowardly
2. ✗ Assured
3. ✗ Unusual
4. ✗ Noticeable

Question Number : 146 Question Id : 54592722972 Question Type : MCQ Option Shuffling : Yes
Correct Marks : 1 Wrong Marks : 0.25

Select the correct pair of homophones to fill in the blanks.

Dried fruits such as _____ or sultanas are frequently added to this basic mix.

I'm not expected to be well-educated on modern politics and _____ events.

Options :

1. ✗ currents, currants
2. ✓ currants, current
3. ✗ current, current
4. ✗ currants, currants

Question Number : 146 Question Id : 54592722972 Question Type : MCQ Option Shuffling : Yes
Correct Marks : 1 Wrong Marks : 0.25

Select the correct pair of homophones to fill in the blanks.

Dried fruits such as _____ or sultanas are frequently added to this basic mix.

I'm not expected to be well-educated on modern politics and _____ events.

Options :

1. ✖ currents, currants
2. ✔ currants, current
3. ✖ current, current
4. ✖ currants, currants

Question Number : 147 Question Id : 54592722973 Question Type : MCQ Option Shuffling : Yes
Correct Marks : 1 Wrong Marks : 0.25

Select the correctly spelt word.

Options :

1. ✔ Guidance
2. ✖ Abcense
3. ✖ Abundent
4. ✖ Dominent

Question Number : 147 Question Id : 54592722973 Question Type : MCQ Option Shuffling : Yes
Correct Marks : 1 Wrong Marks : 0.25

Select the correctly spelt word.

Options :

1. ✔ Guidance
2. ✖ Abcense

3. ✖ Abundent

4. ✖ Dominent

Question Number : 148 Question Id : 54592722974 Question Type : MCQ Option Shuffling : Yes
Correct Marks : 1 Wrong Marks : 0.25

Select the correctly spelt word.

Options :

1. ✖ Villien

2. ✔ Spiritual

3. ✖ Brilliant

4. ✖ Premitive

Question Number : 148 Question Id : 54592722974 Question Type : MCQ Option Shuffling : Yes
Correct Marks : 1 Wrong Marks : 0.25

Select the correctly spelt word.

Options :

1. ✖ Villien

2. ✔ Spiritual

3. ✖ Brilliant

4. ✖ Premitive

Question Number : 149 Question Id : 54592722975 Question Type : MCQ Option Shuffling : Yes
Correct Marks : 1 Wrong Marks : 0.25

Select the correctly spelt word.

Options :

1. ✖ Parellal

2. ✖ Nuisence

3. ✔ Exhibition

4. ✖ Appratus

Question Number : 149 Question Id : 54592722975 Question Type : MCQ Option Shuffling : Yes
Correct Marks : 1 Wrong Marks : 0.25

Select the correctly spelt word.

Options :

1. ✖ Parellal
2. ✖ Nuisence
3. ✔ Exhibition
4. ✖ Appratus

Question Number : 150 Question Id : 54592722976 Question Type : MCQ Option Shuffling : Yes
Correct Marks : 1 Wrong Marks : 0.25

Select the most appropriate meaning of the underlined idiom in the given sentence.

They are at odds over the best way to lead the committee.

Options :

1. ✔ In conflict
2. ✖ In a dilemma
3. ✖ In support of
4. ✖ In a state of confusion

Question Number : 150 Question Id : 54592722976 Question Type : MCQ Option Shuffling : Yes
Correct Marks : 1 Wrong Marks : 0.25

Select the most appropriate meaning of the underlined idiom in the given sentence.

They are at odds over the best way to lead the committee.

Options :

1. ✔ In conflict
2. ✖ In a dilemma

- 3. ✖ In support of
- 4. ✖ In a state of confusion

Question Number : 151 Question Id : 54592722977 Question Type : MCQ Option Shuffling : Yes
Correct Marks : 1 Wrong Marks : 0.25

Select the most appropriate meaning of the underlined idiom in the given sentence.

There is some excitement on the horizon, but I can't tell you about it.

Options :

- 1. ✖ In a state of secrecy
- 2. ✔ Soon to happen
- 3. ✖ Just in time
- 4. ✖ Likely to discomfort

Question Number : 151 Question Id : 54592722977 Question Type : MCQ Option Shuffling : Yes
Correct Marks : 1 Wrong Marks : 0.25

Select the most appropriate meaning of the underlined idiom in the given sentence.

There is some excitement on the horizon, but I can't tell you about it.

Options :

- 1. ✖ In a state of secrecy
- 2. ✔ Soon to happen
- 3. ✖ Just in time
- 4. ✖ Likely to discomfort

Question Number : 152 Question Id : 54592722978 Question Type : MCQ Option Shuffling : Yes
Correct Marks : 1 Wrong Marks : 0.25

Select the most appropriate meaning of the underlined idiom in the given sentence.

I've been on a wild goose chase trying to find a bag of Dan's favorite potato chips.

Options :

1. ✖ In a disorganized manner
2. ✖ Lacking confidence
3. ✔ A worthless chase
4. ✖ In total control

Question Number : 152 Question Id : 54592722978 Question Type : MCQ Option Shuffling : Yes
Correct Marks : 1 Wrong Marks : 0.25

Select the most appropriate meaning of the underlined idiom in the given sentence.

I've been on a wild goose chase trying to find a bag of Dan's favorite potato chips.

Options :

1. ✖ In a disorganized manner
2. ✖ Lacking confidence
3. ✔ A worthless chase
4. ✖ In total control

Question Number : 153 Question Id : 54592722979 Question Type : MCQ Option Shuffling : Yes
Correct Marks : 1 Wrong Marks : 0.25

Select the word which means the same as the group of words given.

Spend the winter in a dormant state:

Options :

1. ✓ Hibernate
2. ✗ Comatose
3. ✗ Celibate
4. ✗ Bifurcate

Question Number : 153 Question Id : 54592722979 Question Type : MCQ Option Shuffling : Yes
Correct Marks : 1 Wrong Marks : 0.25

Select the word which means the same as the group of words given.

Spend the winter in a dormant state:

Options :

1. ✓ Hibernate
2. ✗ Comatose
3. ✗ Celibate
4. ✗ Bifurcate

Question Number : 154 Question Id : 54592722980 Question Type : MCQ Option Shuffling : Yes
Correct Marks : 1 Wrong Marks : 0.25

Select the word which means the same as the group of words given.

A magical or medicinal potion:

Options :

1. ✗ Enigma

2. ✓ Elixir

3. ✗ Fragile

4. ✗ Hybrid

Question Number : 154 Question Id : 54592722980 Question Type : MCQ Option Shuffling : Yes
Correct Marks : 1 Wrong Marks : 0.25

Select the word which means the same as the group of words given.

A magical or medicinal potion:

Options :

1. ✗ Enigma

2. ✓ Elixir

3. ✗ Fragile

4. ✗ Hybrid

Question Number : 155 Question Id : 54592722981 Question Type : MCQ Option Shuffling : Yes
Correct Marks : 1 Wrong Marks : 0.25

Select the word which means the same as the group of words given.

An official pardon for people convicted of political offences:

Options :

1. ✗ Debacle

2. ✗ Equine

3. ✓ Amnesty

4. ✗ Cardinal

Question Number : 155 Question Id : 54592722981 Question Type : MCQ Option Shuffling : Yes
Correct Marks : 1 Wrong Marks : 0.25

Select the word which means the same as the group of words given.

An official pardon for people convicted of political offences:

Options :

1. ✖ Debacle
2. ✖ Equine
3. ✔ Amnesty
4. ✖ Cardinal

Sub-Section Number: 2
Sub-Section Id: 5459271365
Question Shuffling Allowed : Yes

Question Id : 54592722982 Question Type : COMPREHENSION Sub Question Shuffling Allowed : Yes Group Comprehension Questions : No
Question Numbers : (156 to 160)

Question Label : Comprehension

Read the given passage and answer the questions that follow.

Globalization is a process of interaction and integration among the people, companies, and governments of different nations, a process driven by international trade and investment and aided by information technology. This process has effects on the environment, on culture, on political systems, on economic development and prosperity, and on human physical well-being in societies around the world.

Globalization is not new, though. For thousands of years, people—and, later, corporations—have been buying from and selling to each other in lands at great distances, such as through the famed Silk Road across Central Asia that connected China and Europe during the Middle Ages. Likewise, for centuries, people and corporations have invested in enterprises in other countries. In fact, many of the features of the current wave of globalization are similar to those prevailing before the outbreak of the First World War in 1914.

But policy and technological developments of the past few decades have spurred increases in cross-border trade, investment, and migration so large that many observers believe the world has entered a qualitatively new phase in its economic development. Since 1950, for example, the volume of world trade has increased by 20 times, and from just 1997 to 1999 flows of foreign investment nearly doubled, from \$468 billion to \$827 billion. Distinguishing this current wave of globalization from earlier ones, author Thomas Friedman has said that today globalization is “farther, faster, cheaper, and deeper.”

This current wave of globalization has been driven by policies that have opened economies domestically and internationally. In the years since the Second World War, and especially during the past two decades, many governments have adopted free-market economic systems, vastly increasing their own productive potential and creating myriad new opportunities for international trade and investment. Governments also have negotiated dramatic reductions in barriers to commerce and have established international agreements to promote trade in goods, services, and investment. Taking advantage of new opportunities in foreign markets, corporations have built foreign factories and established production and marketing arrangements with foreign partners. A defining feature of globalization, therefore, is an international industrial and financial business structure.

Sub questions

Question Number : 156 Question Id : 54592722983 Question Type : MCQ Option Shuffling : Yes
Correct Marks : 1 Wrong Marks : 0.25

According to the given passage, the process of globalization has effects on all of the following except:

Options :

1. ✓ Information Technology
2. ✗ Political Systems
3. ✗ Economic Development
4. ✗ Human Well-being

Question Number : 157 Question Id : 54592722984 Question Type : MCQ Option Shuffling : Yes
Correct Marks : 1 Wrong Marks : 0.25

In the passage, the author states that globalization as a process is not new because:

Options :

1. ✗ People and corporations rarely joined hands towards business and enterprise.
2. ✓ For many years, people and corporations have invested in enterprises in other countries.
3. ✗ The current wave of globalization is comparatively a new phenomenon.
4. ✗ Both People and corporations rarely joined hands towards business and enterprise. and The current wave of globalization is comparatively a new phenomenon.

Question Number : 158 Question Id : 54592722985 Question Type : MCQ Option Shuffling : Yes
Correct Marks : 1 Wrong Marks : 0.25

According to the passage, the world has entered a new phase in economic development because:

Options :

1. ✖ The volume of trade in the last few decades has remained comparatively low.
2. ✖ Given the economic policies, globalization is still a pipe dream for many developing nations.
3. ✔ The last few decades have increased cross border trade, investment, and migration.
4. ✖ Globalization is proving to be a process far-fetched from the recent trends in the market.

Question Number : 159 Question Id : 54592722986 Question Type : MCQ Option Shuffling : Yes
Correct Marks : 1 Wrong Marks : 0.25

Which of the following is/are not true in the light of the passage?

Options :

1. ✖ Globalizations as a process has effects on various factors including physical well-being in societies around the world.
2. ✖ The recent wave of globalization has resulted in a more open economies internationally.
3. ✖ Globalization imbibes the twin process of interaction and integration.
4. ✔ Foreign factories and foreign partners have a minimal role to play in the recent wave of new opportunities.

Question Number : 160 Question Id : 54592722987 Question Type : MCQ Option Shuffling : Yes
Correct Marks : 1 Wrong Marks : 0.25

From among the given options, choose the one that is closest in meaning to the word 'myriad' as used in the 4th paragraph, 2nd line.

Options :

1. ✔ Extremely great in number
2. ✖ Limited in scope

3. ✖ Lacking variety

4. ✖ Both Limited in scope and Lacking variety

Question Id : 54592722982 Question Type : COMPREHENSION Sub Question Shuffling Allowed : Yes Group Comprehension Questions : No

Question Numbers : (156 to 160)

Question Label : Comprehension



Read the given passage and answer the questions that follow.

Globalization is a process of interaction and integration among the people, companies, and governments of different nations, a process driven by international trade and investment and aided by information technology. This process has effects on the environment, on culture, on political systems, on economic development and prosperity, and on human physical well-being in societies around the world.

Globalization is not new, though. For thousands of years, people—and, later, corporations—have been buying from and selling to each other in lands at great distances, such as through the famed Silk Road across Central Asia that connected China and Europe during the Middle Ages. Likewise, for centuries, people and corporations have invested in enterprises in other countries. In fact, many of the features of the current wave of globalization are similar to those prevailing before the outbreak of the First World War in 1914.

But policy and technological developments of the past few decades have spurred increases in cross-border trade, investment, and migration so large that many observers believe the world has entered a qualitatively new phase in its economic development. Since 1950, for example, the volume of world trade has increased by 20 times, and from just 1997 to 1999 flows of foreign investment nearly doubled, from \$468 billion to \$827 billion. Distinguishing this current wave of globalization from earlier ones, author Thomas Friedman has said that today globalization is “farther, faster, cheaper, and deeper.”

This current wave of globalization has been driven by policies that have opened economies domestically and internationally. In the years since the Second World War, and especially during the past two decades, many governments have adopted free-market economic systems, vastly increasing their own productive potential and creating myriad new opportunities for international trade and investment. Governments also have negotiated dramatic reductions in barriers to commerce and have established international agreements to promote trade in goods, services, and investment. Taking advantage of new opportunities in foreign markets, corporations have built foreign factories and established production and marketing arrangements with foreign partners. A defining feature of globalization, therefore, is an international industrial and financial business structure.

Sub questions

Question Number : 156 Question Id : 54592722983 Question Type : MCQ Option Shuffling : Yes
Correct Marks : 1 Wrong Marks : 0.25

According to the given passage, the process of globalization has effects on all of the following except:

Options :

1. ✓ Information Technology
2. ✗ Political Systems
3. ✗ Economic Development
4. ✗ Human Well-being

Question Number : 157 Question Id : 54592722984 Question Type : MCQ Option Shuffling : Yes
Correct Marks : 1 Wrong Marks : 0.25

In the passage, the author states that globalization as a process is not new because:

Options :

1. ✗ People and corporations rarely joined hands towards business and enterprise.
2. ✓ For many years, people and corporations have invested in enterprises in other countries.
3. ✗ The current wave of globalization is comparatively a new phenomenon.
4. ✗ Both People and corporations rarely joined hands towards business and enterprise. and The current wave of globalization is comparatively a new phenomenon.

Question Number : 158 Question Id : 54592722985 Question Type : MCQ Option Shuffling : Yes
Correct Marks : 1 Wrong Marks : 0.25

According to the passage, the world has entered a new phase in economic development because:

Options :

1. ✖ The volume of trade in the last few decades has remained comparatively low.
2. ✖ Given the economic policies, globalization is still a pipe dream for many developing nations.
3. ✔ The last few decades have increased cross border trade, investment, and migration.
4. ✖ Globalization is proving to be a process far-fetched from the recent trends in the market.

Question Number : 159 Question Id : 54592722986 Question Type : MCQ Option Shuffling : Yes
Correct Marks : 1 Wrong Marks : 0.25

Which of the following is/are not true in the light of the passage?

Options :

1. ✖ Globalizations as a process has effects on various factors including physical well-being in societies around the world.
2. ✖ The recent wave of globalization has resulted in a more open economies internationally.
3. ✖ Globalization imbibes the twin process of interaction and integration.
4. ✔ Foreign factories and foreign partners have a minimal role to play in the recent wave of new opportunities.

Question Number : 160 Question Id : 54592722987 Question Type : MCQ Option Shuffling : Yes
Correct Marks : 1 Wrong Marks : 0.25

From among the given options, choose the one that is closest in meaning to the word ‘myriad’ as used in the 4th paragraph, 2nd line.

Options :

- 1. ✓ Extremely great in number
- 2. ✗ Limited in scope
- 3. ✗ Lacking variety
- 4. ✗ Both Limited in scope and Lacking variety

General Hindi1

Group Number :	9
Group Id :	5459271139
Group Maximum Duration :	0
Group Minimum Duration :	0
Show Attended Group? :	No
Edit Attended Group? :	No
Break time:	0
Group Marks:	20
Is this Group for Examiner?:	No
Revisit allowed for group Instructions? :	Yes
Maximum Instruction Time:	0
Minimum Instruction Time:	0

General Hindi1

Section Id :	5459271139
Section Number :	1
Section type :	Online
Mandatory or Optional:	Mandatory
Number of Questions:	20
Number of Questions to be attempted:	20
Section Marks:	20

Sub-Section Number:	1
Sub-Section Id:	5459271366

Question Shuffling Allowed :

Yes

Question Number : 161 Question Id : 54592722988 Question Type : MCQ Option Shuffling : Yes

Correct Marks : 1 Wrong Marks : 0.25

निम्नलिखित शब्द में से तद्धव शब्द ज्ञात कीजिए-

Options :

1. ✓ आग
2. ✗ वत्स
3. ✗ अग्नि
4. ✗ मयूर

Question Number : 161 Question Id : 54592722988 Question Type : MCQ Option Shuffling : Yes

Correct Marks : 1 Wrong Marks : 0.25

निम्नलिखित शब्द में से तद्धव शब्द ज्ञात कीजिए-

Options :

1. ✓ आग
2. ✗ वत्स
3. ✗ अग्नि
4. ✗ मयूर

Question Number : 162 Question Id : 54592722989 Question Type : MCQ Option Shuffling : Yes

Correct Marks : 1 Wrong Marks : 0.25

निम्नलिखित शब्द में से कौन-सा शब्द कर्मधारय समास का उदाहरण है?

Options :

1. ✗ रातदिन
2. ✓ भवसागर
3. ✗ त्रिलोक
4. ✗ अन्नजल

Question Number : 162 Question Id : 54592722989 Question Type : MCQ Option Shuffling : Yes

Correct Marks : 1 Wrong Marks : 0.25

निम्नलिखित शब्द में से कौन-सा शब्द कर्मधारय समास का उदाहरण है?

Options :

1. ✖ रातदिन
2. ✔ भवसागर
3. ✖ त्रिलोक
4. ✖ अन्नजल

Question Number : 163 Question Id : 54592722990 Question Type : MCQ Option Shuffling : Yes
Correct Marks : 1 Wrong Marks : 0.25

निम्नलिखित शब्द में से कौन-सा गुण सन्धि का उदाहरण है?

Options :

1. ✔ सूर्योदय
2. ✖ मतैक्य
3. ✖ मात्रानंद
4. ✖ गायन

Question Number : 163 Question Id : 54592722990 Question Type : MCQ Option Shuffling : Yes
Correct Marks : 1 Wrong Marks : 0.25

निम्नलिखित शब्द में से कौन-सा गुण सन्धि का उदाहरण है?

Options :

1. ✔ सूर्योदय
2. ✖ मतैक्य
3. ✖ मात्रानंद
4. ✖ गायन

Question Number : 164 Question Id : 54592722991 Question Type : MCQ Option Shuffling : Yes
Correct Marks : 1 Wrong Marks : 0.25

पंडिताइन शब्द में कौन-सा प्रत्यय लगा है?

Options :

1. ✖ इन
2. ✖ आनी
3. ✖ ताइन

4. ✓ आइन

Question Number : 164 Question Id : 54592722991 Question Type : MCQ Option Shuffling : Yes
Correct Marks : 1 Wrong Marks : 0.25

पंडिताइन शब्द में कौन-सा प्रत्यय लगा है?

Options :

1. ✗ इन
2. ✗ आनी
3. ✗ ताइन
4. ✓ आइन

Question Number : 165 Question Id : 54592722992 Question Type : MCQ Option Shuffling : Yes
Correct Marks : 1 Wrong Marks : 0.25

'कुछ शब्द' निम्नलिखित में से कौन-सा सर्वनाम है?

Options :

1. ✗ संबंधवाचक
2. ✓ अनिश्चयवाचक
3. ✗ भाववाचक
4. ✗ निश्चयवाचक

Question Number : 165 Question Id : 54592722992 Question Type : MCQ Option Shuffling : Yes
Correct Marks : 1 Wrong Marks : 0.25

'कुछ शब्द' निम्नलिखित में से कौन-सा सर्वनाम है?

Options :

1. ✗ संबंधवाचक
2. ✓ अनिश्चयवाचक
3. ✗ भाववाचक
4. ✗ निश्चयवाचक

Question Number : 166 Question Id : 54592722993 Question Type : MCQ Option Shuffling : Yes
Correct Marks : 1 Wrong Marks : 0.25

एक अर्थ प्रकट करने वाले शब्दों को क्या कहते हैं?

Options :

1. ✖ एकार्थी शब्द
2. ✔ समानार्थी शब्द
3. ✖ विविधार्थक शब्द
4. ✖ विलोम शब्द

Question Number : 166 Question Id : 54592722993 Question Type : MCQ Option Shuffling : Yes
Correct Marks : 1 Wrong Marks : 0.25

एक अर्थ प्रकट करने वाले शब्दों को क्या कहते हैं?

Options :

1. ✖ एकार्थी शब्द
2. ✔ समानार्थी शब्द
3. ✖ विविधार्थक शब्द
4. ✖ विलोम शब्द

Question Number : 167 Question Id : 54592722994 Question Type : MCQ Option Shuffling : Yes
Correct Marks : 1 Wrong Marks : 0.25

निम्नलिखित शब्दों में से शुद्ध शब्दों का चयन कीजिए-

Options :

1. ✖ कवियित्री
2. ✖ कवीयत्री
3. ✖ कवयत्री
4. ✔ कवयित्री

Question Number : 167 Question Id : 54592722994 Question Type : MCQ Option Shuffling : Yes
Correct Marks : 1 Wrong Marks : 0.25

निम्नलिखित शब्दों में से शुद्ध शब्दों का चयन कीजिए-

Options :

1. ✖ कवियित्री
2. ✖ कवीयत्री
3. ✖ कवयत्री

4. ✓ कवयित्री

Question Number : 168 Question Id : 54592722995 Question Type : MCQ Option Shuffling : Yes

Correct Marks : 1 Wrong Marks : 0.25

निम्नलिखित शब्दों में से पर्यायवाची शब्द का चयन कीजिए-

Note: For this question, discrepancy is found in question/answer. So, this question is ignored for all candidates.

Options :

1. पत्ता
2. तालाब
3. अग्नि
4. मान

Question Number : 168 Question Id : 54592722995 Question Type : MCQ Option Shuffling : Yes

Correct Marks : 1 Wrong Marks : 0.25

निम्नलिखित शब्दों में से पर्यायवाची शब्द का चयन कीजिए-

Note: For this question, discrepancy is found in question/answer. So, this question is ignored for all candidates.

Options :

1. पत्ता
2. तालाब
3. अग्नि
4. मान

Question Number : 169 Question Id : 54592722996 Question Type : MCQ Option Shuffling : Yes

Correct Marks : 1 Wrong Marks : 0.25

कल्पित का विलोम शब्द है-

Options :

1. ✓ सत्य
2. * मिथ्या
3. * झूठ
4. * सही

Question Number : 169 Question Id : 54592722996 Question Type : MCQ Option Shuffling : Yes

Correct Marks : 1 Wrong Marks : 0.25

कल्पित का विलोम शब्द है-

Options :

1. ✓ सत्य
2. ✗ मिथ्या
3. ✗ झूठ
4. ✗ सही

Question Number : 170 Question Id : 54592722997 Question Type : MCQ Option Shuffling : Yes

Correct Marks : 1 Wrong Marks : 0.25

रामायण और महाभारत कश्मीर से लेकर कन्याकुमारी तक सारे _____ में आदर के साथ पढ़े जाते हैं।

Options :

1. ✗ विश्व
2. ✓ भारत
3. ✗ उत्तर भारत
4. ✗ दक्षिण भारत

Question Number : 170 Question Id : 54592722997 Question Type : MCQ Option Shuffling : Yes

Correct Marks : 1 Wrong Marks : 0.25

रामायण और महाभारत कश्मीर से लेकर कन्याकुमारी तक सारे _____ में आदर के साथ पढ़े जाते हैं।

Options :

1. ✗ विश्व
2. ✓ भारत
3. ✗ उत्तर भारत
4. ✗ दक्षिण भारत

Question Number : 171 Question Id : 54592722998 Question Type : MCQ Option Shuffling : Yes

Correct Marks : 1 Wrong Marks : 0.25

प्रश्न में दिए गए चार विकल्पों में से असंगत शब्द का चयन करें-

Options :

1. ✖ वेद
2. ✔ कान
3. ✖ ऋचा
4. ✖ उपनिषद्

Question Number : 171 Question Id : 54592722998 Question Type : MCQ Option Shuffling : Yes
Correct Marks : 1 Wrong Marks : 0.25

प्रश्न में दिए गए चार विकल्पों में से असंगत शब्द का चयन करें-

Options :

1. ✖ वेद
2. ✔ कान
3. ✖ ऋचा
4. ✖ उपनिषद्

Question Number : 172 Question Id : 54592722999 Question Type : MCQ Option Shuffling : Yes
Correct Marks : 1 Wrong Marks : 0.25

निम्न में से कौन-सा शब्द असुर का पर्यायवाची नहीं है?

Options :

1. ✖ दनुज
2. ✖ दैत्य
3. ✖ निशाचर
4. ✔ ईक्षण

Question Number : 172 Question Id : 54592722999 Question Type : MCQ Option Shuffling : Yes
Correct Marks : 1 Wrong Marks : 0.25

निम्न में से कौन-सा शब्द असुर का पर्यायवाची नहीं है?

Options :

1. ✖ दनुज
2. ✖ दैत्य
3. ✖ निशाचर

4. ✓ ईक्षण

Question Number : 173 Question Id : 54592723000 Question Type : MCQ Option Shuffling : Yes

Correct Marks : 1 Wrong Marks : 0.25

देश समान या किसी महान पुरुष के गुणों पर गर्व पाना के लिए शब्द का चयन करें-

Options :

1. ✓ अभिमान
2. ✖ अभिनंदन
3. ✖ गर्व
4. ✖ श्रेष्ठता

Question Number : 173 Question Id : 54592723000 Question Type : MCQ Option Shuffling : Yes

Correct Marks : 1 Wrong Marks : 0.25

देश समान या किसी महान पुरुष के गुणों पर गर्व पाना के लिए शब्द का चयन करें-

Options :

1. ✓ अभिमान
2. ✖ अभिनंदन
3. ✖ गर्व
4. ✖ श्रेष्ठता

Question Number : 174 Question Id : 54592723001 Question Type : MCQ Option Shuffling : Yes

Correct Marks : 1 Wrong Marks : 0.25

अनुकम्पा का शाब्दिक अर्थ है

Options :

1. ✓ किसी के दुख से दुखी होकर उस पर दया करना
2. ✖ मार्ग दर्शन करना
3. ✖ प्रश्न होकर भलाई करना
4. ✖ उपकार करना

Question Number : 174 Question Id : 54592723001 Question Type : MCQ Option Shuffling : Yes

Correct Marks : 1 Wrong Marks : 0.25

अनुकम्पा का शाब्दिक अर्थ है

Options :

1. ✓ किसी के दुख से दुखी होकर उस पर दया करना
2. ✖ मार्ग दर्शन करना
3. ✖ प्रशन्न होकर भलाई करना
4. ✖ उपकार करना

Question Number : 175 Question Id : 54592723002 Question Type : MCQ Option Shuffling : Yes
Correct Marks : 1 Wrong Marks : 0.25

निम्नलिखित में से कौन-सा युग्म शब्द है?

Options :

1. ✖ घर-घर
2. ✖ छोटे-छोटे
3. ✖ चार-चार
4. ✓ आगा-पीछा

Question Number : 175 Question Id : 54592723002 Question Type : MCQ Option Shuffling : Yes
Correct Marks : 1 Wrong Marks : 0.25

निम्नलिखित में से कौन-सा युग्म शब्द है?

Options :

1. ✖ घर-घर
2. ✖ छोटे-छोटे
3. ✖ चार-चार
4. ✓ आगा-पीछा

Question Number : 176 Question Id : 54592723003 Question Type : MCQ Option Shuffling : Yes
Correct Marks : 1 Wrong Marks : 0.25

जो दूसरों के स्थान पर अस्थायी रूप से काम करे वाक्यांश के लिए दिए गए विकल्पों में से उपयुक्त शब्द चुनिए-

Options :

1. ✖ अस्थायी

2. ✖ स्थायी
3. ✖ सर्वव्यापी
4. ✔ स्थानापन

Question Number : 176 Question Id : 54592723003 Question Type : MCQ Option Shuffling : Yes
Correct Marks : 1 Wrong Marks : 0.25

जो दूसरों के स्थान पर अस्थाई रूप से काम करे वाक्यांश के लिए दिए गए विकल्पों में से उपयुक्त शब्द चुनिए-

Options :

1. ✖ अस्थायी
2. ✖ स्थायी
3. ✖ सर्वव्यापी
4. ✔ स्थानापन

Question Number : 177 Question Id : 54592723004 Question Type : MCQ Option Shuffling : Yes
Correct Marks : 1 Wrong Marks : 0.25

निम्न में से कौन-सा शब्द पुलिंग है?

Options :

1. ✔ दुरात्मा
2. ✖ बालबुद्धि
3. ✖ रीति
4. ✖ भावना

Question Number : 177 Question Id : 54592723004 Question Type : MCQ Option Shuffling : Yes
Correct Marks : 1 Wrong Marks : 0.25

निम्न में से कौन-सा शब्द पुलिंग है?

Options :

1. ✔ दुरात्मा
2. ✖ बालबुद्धि
3. ✖ रीति

4. ✖ भावना

Question Number : 178 Question Id : 54592723005 Question Type : MCQ Option Shuffling : Yes

Correct Marks : 1 Wrong Marks : 0.25

संज्ञा या सर्वनाम के जिस रूप से उसका संबंध वाक्य के किसी दूसरे शब्द के साथ प्रकट होता है उसे कहते हैं-

Options :

1. ✖ लिंग
2. ✖ बचन
3. ✓ कारक
4. ✖ काल

Question Number : 178 Question Id : 54592723005 Question Type : MCQ Option Shuffling : Yes

Correct Marks : 1 Wrong Marks : 0.25

संज्ञा या सर्वनाम के जिस रूप से उसका संबंध वाक्य के किसी दूसरे शब्द के साथ प्रकट होता है उसे कहते हैं-

Options :

1. ✖ लिंग
2. ✖ बचन
3. ✓ कारक
4. ✖ काल

Question Number : 179 Question Id : 54592723006 Question Type : MCQ Option Shuffling : Yes

Correct Marks : 1 Wrong Marks : 0.25

निम्नलिखित में से कौन-सा संदिग्ध भूतकाल का उदाहरण है?

Options :

1. ✖ वह गया
2. ✖ वह जायेगा
3. ✖ वह जाने वाला है
4. ✓ वह गया होगा

Question Number : 179 Question Id : 54592723006 Question Type : MCQ Option Shuffling : Yes

Correct Marks : 1 Wrong Marks : 0.25

निम्नलिखित में से कौन-सा संदिग्ध भूतकाल का उदाहरण है?

Options :

1. ✖ वह गया
2. ✖ वह जायेगा
3. ✖ वह जाने वाला है
4. ✔ वह गया होगा

Question Number : 180 Question Id : 54592723007 Question Type : MCQ Option Shuffling : Yes

Correct Marks : 1 Wrong Marks : 0.25

निम्नलिखित वाक्य के लिए दिए गए विकल्पों में से उसके उसके प्रकार या चिन्हित कीजिए

'ऐसा कौन-सा भारतवासी है जिसने राष्ट्रपिता महात्मा गाँधी का नाम न सुना हो'।

Options :

1. ✖ सरल वाक्य
2. ✖ संयुक्त वाक्य
3. ✔ मिश्र वाक्य
4. ✖ लघु वाक्य

Question Number : 180 Question Id : 54592723007 Question Type : MCQ Option Shuffling : Yes

Correct Marks : 1 Wrong Marks : 0.25

निम्नलिखित वाक्य के लिए दिए गए विकल्पों में से उसके उसके प्रकार या चिन्हित कीजिए

'ऐसा कौन-सा भारतवासी है जिसने राष्ट्रपिता महात्मा गाँधी का नाम न सुना हो'।

Options :

1. ✖ सरल वाक्य
2. ✖ संयुक्त वाक्य

3. ✓ मिश्र वाक्य

4. ✖ लघु वाक्य

General Hindi2

Group Number :	10
Group Id :	5459271140
Group Maximum Duration :	0
Group Minimum Duration :	120
Show Attended Group? :	No
Edit Attended Group? :	No
Break time:	0
Group Marks:	20
Is this Group for Examiner?:	No
Revisit allowed for group Instructions? :	Yes
Maximum Instruction Time:	0
Minimum Instruction Time:	0

General Hindi2

Section Id :	5459271140
Section Number :	1
Section type :	Online
Mandatory or Optional:	Mandatory
Number of Questions:	16
Number of Questions to be attempted:	16
Section Marks:	20

Sub-Section Number:	1
Sub-Section Id:	5459271367
Question Shuffling Allowed :	Yes

Question Number : 181 Question Id : 54592723008 Question Type : MCQ Option Shuffling : Yes
Correct Marks : 1 Wrong Marks : 0.25

निम्नलिखित वाक्य के लिए दिए गए विकल्पों में से उसके उसके प्रकार या चिन्हित कीजिए

'कल खूब किताबें पढ़ी'

Options :

1. ✓ सरल वाक्य

2. * संयुक्त वाक्य
3. * मिश्र वाक्य
4. * लघु वाक्य

Question Number : 181 Question Id : 54592723008 Question Type : MCQ Option Shuffling : Yes
Correct Marks : 1 Wrong Marks : 0.25

निम्नलिखित वाक्य के लिए दिए गए विकल्पों में से उसके उसके प्रकार या चिन्हित कीजिए

'कल खूब किताबें पढ़ी'

Options :

1. ✓ सरल वाक्य
2. * संयुक्त वाक्य
3. * मिश्र वाक्य
4. * लघु वाक्य

Question Number : 182 Question Id : 54592723009 Question Type : MCQ Option Shuffling : Yes
Correct Marks : 1 Wrong Marks : 0.25

निम्नलिखित में से शुद्ध वाक्य है-

Options :

1. * मोहन ने गुनने गरम जल से स्नान किया
2. * गुनगुने जल से मोहन से स्नान किया गया
3. * स्नान किया मोहन ने गुनगुने जल से
4. ✓ मोहन ने गुनगुने जल से स्नान किया

Question Number : 182 Question Id : 54592723009 Question Type : MCQ Option Shuffling : Yes
Correct Marks : 1 Wrong Marks : 0.25

निम्नलिखित में से शुद्ध वाक्य है-

Options :

1. * मोहन ने गुनने गरम जल से स्नान किया

2. ✖ गुनगुने जल से मोहन से स्नान किया गया
3. ✖ स्नान किया मोहन ने गुनगुने जल से
4. ✔ मोहन ने गुनगुने जल से स्नान किया

Question Number : 183 Question Id : 54592723010 Question Type : MCQ Option Shuffling : Yes
Correct Marks : 1 Wrong Marks : 0.25

निम्नलिखित में से खटिया का बहुवचन रूप क्या होगा?

Options :

1. ✖ खाटें
2. ✔ खटियाँ
3. ✖ खाटिए
4. ✖ खाटियों

Question Number : 183 Question Id : 54592723010 Question Type : MCQ Option Shuffling : Yes
Correct Marks : 1 Wrong Marks : 0.25

निम्नलिखित में से खटिया का बहुवचन रूप क्या होगा-

Options :

1. ✖ खाटें
2. ✔ खटियाँ
3. ✖ खाटिए
4. ✖ खाटियों

Question Number : 184 Question Id : 54592723011 Question Type : MCQ Option Shuffling : Yes
Correct Marks : 1 Wrong Marks : 0.25

निम्नलिखित में से कौन-सा शुद्ध वाक्य है?

Options :

1. ✖ मेघ पानी वरसाते हैं
2. ✖ आपका भवदीय
3. ✖ जंगल में घना अंधकार था
4. ✔ मैं तुम्हारी पुस्तक लूंगा

Question Number : 184 Question Id : 54592723011 Question Type : MCQ Option Shuffling : Yes

Correct Marks : 1 Wrong Marks : 0.25

निम्नलिखित में से कौन-सा शुद्ध वाक्य है?

Options :

1. ✖ मेघ पानी बरसाते हैं
2. ✖ आपका भवदीय
3. ✖ जंगल में घना अंधकार था
4. ✔ मैं तुम्हारी पुस्तक लूंगा

Question Number : 185 Question Id : 54592723012 Question Type : MCQ Option Shuffling : Yes

Correct Marks : 1 Wrong Marks : 0.25

निम्नलिखित में से कौन-सा उत्तम पुरुष का उदाहरण है?

Options :

1. ✖ तुम्हें वंहा कभी न जाना चाहिए
2. ✔ मुझे प्रातः काल घूमना पसंद है
3. ✖ वह इंजीनियर बनने के सपने देख रहा है
4. ✖ इन्हें यहाँ से हटाओं

Question Number : 185 Question Id : 54592723012 Question Type : MCQ Option Shuffling : Yes

Correct Marks : 1 Wrong Marks : 0.25

निम्नलिखित में से कौन-सा उत्तम पुरुष का उदाहरण है?

Options :

1. ✖ तुम्हें वंहा कभी न जाना चाहिए
2. ✔ मुझे प्रातः काल घूमना पसंद है
3. ✖ वह इंजीनियर बनने के सपने देख रहा है
4. ✖ इन्हें यहाँ से हटाओं

Question Number : 186 Question Id : 54592723013 Question Type : MCQ Option Shuffling : Yes

Correct Marks : 1 Wrong Marks : 0.25

सम्प्रदान कारक के लिए प्रयुक्त होने वाला चिन्ह है-

Options :

1. ✖ ने

- 2. ✖ को
- 3. ✖ से
- 4. ✔ को, के लिए

Question Number : 186 Question Id : 54592723013 Question Type : MCQ Option Shuffling : Yes
Correct Marks : 1 Wrong Marks : 0.25

सम्प्रदान कारक के लिए प्रयुक्त होने वाला चिन्ह है-

Options :

- 1. ✖ ने
- 2. ✖ को
- 3. ✖ से
- 4. ✔ को, के लिए

Question Number : 187 Question Id : 54592723014 Question Type : MCQ Option Shuffling : Yes
Correct Marks : 1 Wrong Marks : 0.25

जिस वस्तु का किसी से पृथक होना पाया जाता है उसे कहते हैं-

Options :

- 1. ✖ कर्म
- 2. ✔ अपादान
- 3. ✖ सम्बंध
- 4. ✖ सम्प्रदान

Question Number : 187 Question Id : 54592723014 Question Type : MCQ Option Shuffling : Yes
Correct Marks : 1 Wrong Marks : 0.25

जिस वस्तु का किसी से पृथक होना पाया जाता है उसे कहते हैं-

Options :

- 1. ✖ कर्म
- 2. ✔ अपादान
- 3. ✖ सम्बंध
- 4. ✖ सम्प्रदान

Question Number : 188 Question Id : 54592723015 Question Type : MCQ Option Shuffling : Yes
Correct Marks : 1 Wrong Marks : 0.25

निम्न में से कौन-सा भिन्न उच्चारण वाला समानार्थी युग्म शब्द है?

Options :

1. ✖ कलि-कलिका
2. ✔ छल-कपट
3. ✖ दाना-पानी
4. ✖ यंत्र-तंत्र

Question Number : 188 Question Id : 54592723015 Question Type : MCQ Option Shuffling : Yes
Correct Marks : 1 Wrong Marks : 0.25

निम्न में से कौन-सा भिन्न उच्चारण वाला समानार्थी युग्म शब्द है?

Options :

1. ✖ कलि-कलिका
2. ✔ छल-कपट
3. ✖ दाना-पानी
4. ✖ यंत्र-तंत्र

Question Number : 189 Question Id : 54592723016 Question Type : MCQ Option Shuffling : Yes
Correct Marks : 1 Wrong Marks : 0.25

विराम चिन्ह किस भाषा की देन है?

Options :

1. ✔ अंग्रेजी
2. ✖ हिंदी
3. ✖ संस्कृत
4. ✖ अरबी

Question Number : 189 Question Id : 54592723016 Question Type : MCQ Option Shuffling : Yes
Correct Marks : 1 Wrong Marks : 0.25

विराम चिन्ह किस भाषा की देन है?

Options :

1. ✔ अंग्रेजी

2. * हिंदी
3. * संस्कृत
4. * अरबी

Question Number : 190 Question Id : 54592723017 Question Type : MCQ Option Shuffling : Yes
Correct Marks : 1 Wrong Marks : 0.25

माता-पिता में कौन-सा चिन्ह है?

Options :

1. * प्रश्नवाचक चिन्ह
2. * निर्देशक चिन्ह
3. * उद्धरणचिन्ह
4. ✓ संयोजक चिन्ह

Question Number : 190 Question Id : 54592723017 Question Type : MCQ Option Shuffling : Yes
Correct Marks : 1 Wrong Marks : 0.25

माता-पिता में कौन-सा चिन्ह है?

Options :

1. * प्रश्नवाचक चिन्ह
2. * निर्देशक चिन्ह
3. * उद्धरणचिन्ह
4. ✓ संयोजक चिन्ह

Question Number : 191 Question Id : 54592723018 Question Type : MCQ Option Shuffling : Yes
Correct Marks : 1 Wrong Marks : 0.25

यदि लेख में कोई वाक्यांश शब्द या अक्षर छूट जाए तो इस त्रुटि को सूचना किस विराम चिन्ह से मिलती है-

Options :

1. * विवरण चिन्ह
2. * लोप चिन्ह
3. ✓ हंसपद
4. * लापन चिन्ह

Question Number : 191 Question Id : 54592723018 Question Type : MCQ Option Shuffling : Yes
Correct Marks : 1 Wrong Marks : 0.25

यदि लेख में कोई वाक्यांश शब्द या अक्षर छूट जाए तो इस त्रुटि को सूचना किस विराम चिन्ह से मिलती है?

Options :

1. ✖ विवरण चिन्ह
2. ✖ लोप चिन्ह
3. ✔ हंसपद
4. ✖ लापन चिन्ह

Question Number : 192 Question Id : 54592723019 Question Type : MCQ Option Shuffling : Yes
Correct Marks : 1 Wrong Marks : 0.25

मुहावरा किस भाषा का शब्द है?

Options :

1. ✔ अरबी
2. ✖ हिंदी
3. ✖ संस्कृत
4. ✖ अंग्रेजी

Question Number : 192 Question Id : 54592723019 Question Type : MCQ Option Shuffling : Yes
Correct Marks : 1 Wrong Marks : 0.25

मुहावरा किस भाषा का शब्द है?

Options :

1. ✔ अरबी
2. ✖ हिंदी
3. ✖ संस्कृत
4. ✖ अंग्रेजी

Question Number : 193 Question Id : 54592723020 Question Type : MCQ Option Shuffling : Yes
Correct Marks : 1 Wrong Marks : 0.25

पानी आग लगाना मुहावरे का अर्थ है-

Options :

1. ✓ असंभव कार्य करना
2. ✗ कठिन कार्य करना
3. ✗ जटिल काम करना
4. ✗ परिश्रम करना

Question Number : 193 Question Id : 54592723020 Question Type : MCQ Option Shuffling : Yes
Correct Marks : 1 Wrong Marks : 0.25

पानी में आग लगाना मुहावरे का अर्थ है:

Options :

1. ✓ असंभव कार्य करना
2. ✗ कठिन कार्य करना
3. ✗ जटिल काम करना
4. ✗ परिश्रम करना

Question Number : 194 Question Id : 54592723021 Question Type : MCQ Option Shuffling : Yes
Correct Marks : 1 Wrong Marks : 0.25

कोल्हू का बैल कहावत का अर्थ है-

Options :

1. ✓ एक ही स्थिति में चलने वाला
2. ✗ एक काम करने वाला
3. ✗ स्थिर रहने वाला
4. ✗ सदैव सक्रिय रहने वाला

Question Number : 194 Question Id : 54592723021 Question Type : MCQ Option Shuffling : Yes
Correct Marks : 1 Wrong Marks : 0.25

कोल्हू का बैल कहावत का अर्थ है-

Options :

1. ✓ एक ही स्थिति में चलने वाला
2. ✗ एक काम करने वाला
3. ✗ स्थिर रहने वाला

4. ✖ सदैव सक्रिय रहने वाला

Question Number : 195 Question Id : 54592723022 Question Type : MCQ Option Shuffling : Yes
Correct Marks : 1 Wrong Marks : 0.25

दुविधा में दोनों गए माया मिली न राम लोकोक्ति का अर्थ है-

Options :

1. ✖ एक साथ कहीं काम
2. ✖ सदैव काम करना
3. ✖ काम करने से माया का मिलना
4. ✔ एक समय से दो काम काम करने से एक में सफलता न मिलना

Question Number : 195 Question Id : 54592723022 Question Type : MCQ Option Shuffling : Yes
Correct Marks : 1 Wrong Marks : 0.25

दुविधा में दोनों गए माया मिली न राम लोकोक्ति का अर्थ है-

Options :

1. ✖ एक साथ कहीं काम
2. ✖ सदैव काम करना
3. ✖ काम करने से माया का मिलना
4. ✔ एक समय से दो काम करने से एक में सफलता न मिलना

Sub-Section Number: 2
Sub-Section Id: 5459271368
Question Shuffling Allowed : Yes

Question Id : 54592723023 Question Type : COMPREHENSION Sub Question Shuffling Allowed : Yes Group Comprehension
Questions : No
Question Numbers : (196 to 200)

Question Label : Comprehension

नीचे लिखे गद्यांश को पढ़कर दिए गए प्रश्न का उत्तर दें-

हमारी खराबी का स्रोत कहाँ है- इसका पता हमें लगाना चाहिए और वहीं से उसे ठीक करने का प्रयत्न करना चाहिए। स्रोत वहीं हो सकता है, जहाँ से हमारा जीवन प्रारंभ होता है और वह है हमारा घर। हमारे घर की इस समय बड़ी दुर्व्यवस्था है। अवश्य ही आप लोगों को अपने घर से असंतोष होगा। असंतोष इसी कारण हो सकता है कि घर में कुछ दोष आप पाते हैं परंतु दोष की कुछ जिम्मेदारी आपके ऊपर भी है। ऐसी स्थिति में आपका कर्तव्य है कि आप इन दोषों को दूर करने का प्रयत्न करें। स्वयं भावों का आदर करते हुए आपको ऐसा प्रयास करना होगा कि आपके कारण किसी दूसरे को कष्ट न हो इससे घर की शांति और सोहार्द में वृद्धि होगी। आजकल की सबसे विचित्र बात यह है कि कोई अपने को दोष नहीं देता, सब कोई दूसरे को दोष देते हैं। आज के संसार में आपकी बड़ी जिम्मेदारी है। आगे का भारत वैसा ही होगा जैसे आप लोग अपने जीवन से उसे बनाएंगे। यदि आप अपना काम ठीक तरह से करते हैं तो आप सब देश भक्त हैं और यदि आप अपने काम के प्रति उदासीन हैं तो आप वास्तव में देशद्रोही हैं।

Sub questions

Question Number : 196 Question Id : 54592723024 Question Type : MCQ Option Shuffling : Yes

Correct Marks : 1 Wrong Marks : 0.25

हमारी खराबी का स्रोत कहाँ है-

Options :

1. ✓ घर में
2. * हमारे जीवन के आरंभ में
3. * हमारे अंदर
4. * घर के लोगों के असंतोष में

Question Number : 197 Question Id : 54592723025 Question Type : MCQ Option Shuffling : Yes

Correct Marks : 1 Wrong Marks : 0.25

घर में शांति एवं सोहार्द की वृद्धि किस प्रकार हो सकती है?

Options :

1. * घर के दोषों को दूर करके
2. * दूसरों को जिम्मेदारी पूरी करने के लिए कहें
3. ✓ अपने दोषों को दूर करने का यत्न करें
4. * देशभक्ति करें

Question Number : 198 Question Id : 54592723026 Question Type : MCQ Option Shuffling : Yes
Correct Marks : 1 Wrong Marks : 0.25

देशद्रोही कौन है?

Options :

1. * जो देश से द्रोह हो
2. * जो अपने घर से असंतुष्ट हो
3. * जो दूसरों को दोष देता हो
4. ✓ जो जो अपने काम के प्रति उदासीन हो

Question Number : 199 Question Id : 54592723027 Question Type : MCQ Option Shuffling : Yes
Correct Marks : 1 Wrong Marks : 0.25

देशभक्त सामाजिक शब्द का सही विग्रह है-

Options :

1. * देश में भक्त
2. ✓ देश का भक्त
3. * देश की भक्ति
4. * देश के लिए भक्ति

Question Number : 200 Question Id : 54592723028 Question Type : MCQ Option Shuffling : Yes
Correct Marks : 1 Wrong Marks : 0.25

स्रोत का अर्थ है-

Options :

1. * कारण
2. * जिम्मेदारी
3. ✓ आरंभ
4. * वृद्धि

Question Id : 54592723023 Question Type : COMPREHENSION Sub Question Shuffling Allowed : Yes Group Comprehension Questions : No

Question Numbers : (196 to 200)

Question Label : Comprehension

नीचे लिखे गद्यांश को पढ़कर दिए गए प्रश्न का उत्तर दें-

हमारी खराबी का स्रोत कहाँ है- इसका पता हमें लगाना चाहिए और वहीं से उसे ठीक करने का प्रयत्न करना चाहिए। स्रोत वहीं हो सकता है, जहाँ से हमारा जीवन प्रारंभ होता है और वह है हमारा घर। हमारे घर की इस समय बड़ी दुर्व्यवस्था है। अवश्य ही आप लोगों को अपने घर से असंतोष होगा। असंतोष इसी कारण हो सकता है कि घर में कुछ दोष आप पाते हैं परंतु दोष की कुछ जिम्मेदारी आपके ऊपर भी है। ऐसी स्थिति में आपका कर्तव्य है कि आप इन दोषों को दूर करने का प्रयत्न करें। स्वयं भावों का आदर करते हुए आपको ऐसा प्रयास करना होगा कि आपके कारण किसी दूसरे को कष्ट न हो इससे घर की शांति और सोहार्द में वृद्धि होगी। आजकल की सबसे विचित्र बात यह है कि कोई अपने को दोष नहीं देता, सब कोई दूसरे को दोष देते हैं। आज के संसार में आपकी बड़ी जिम्मेदारी है। आगे का भारत वैसा ही होगा जैसे आप लोग अपने जीवन से उसे बनाएंगे। यदि आप अपना काम ठीक तरह से करते हैं तो आप सब देश भक्त हैं और यदि आप अपने काम के प्रति उदासीन हैं तो आप वास्तव में देशद्रोही हैं।

Sub questions

Question Number : 196 Question Id : 54592723024 Question Type : MCQ Option Shuffling : Yes
Correct Marks : 1 Wrong Marks : 0.25

हमारी खराबी का स्रोत कहाँ है-

Options :

1. ✓ घर में
2. ✖ हमारे जीवन के आरंभ में
3. ✖ हमारे अंदर
4. ✖ घर के लोगों के असंतोष में

Question Number : 197 Question Id : 54592723025 Question Type : MCQ Option Shuffling : Yes
Correct Marks : 1 Wrong Marks : 0.25

घर में शांति एवं सोहार्द की वृद्धि किस प्रकार हो सकती है?

Options :

1. ✖ घर के दोषों को दूर करके
2. ✖ दूसरों को जिम्मेदारी पूरी करने के लिए कहें
3. ✓ अपने दोषों को दूर करने का यत्न करें
4. ✖ देशभक्ति करें

Question Number : 198 Question Id : 54592723026 Question Type : MCQ Option Shuffling : Yes
Correct Marks : 1 Wrong Marks : 0.25

देशद्रोही कौन है?

Options :

1. ✖ जो देश से द्रोह हो
2. ✖ जो अपने घर से असंतुष्ट हो
3. ✖ जो दूसरों को दोष देता हो
4. ✓ जो जो अपने काम के प्रति उदासीन हो

Question Number : 199 Question Id : 54592723027 Question Type : MCQ Option Shuffling : Yes
Correct Marks : 1 Wrong Marks : 0.25

देशभक्त सामाजिक शब्द का सही विग्रह है-

Options :

1. ✖ देश में भक्त

- 2. ✓ देश का भक्त
- 3. ✖ देश की भक्ति
- 4. ✖ देश के लिए भक्ति

Question Number : 200 Question Id : 54592723028 Question Type : MCQ Option Shuffling : Yes
Correct Marks : 1 Wrong Marks : 0.25

स्त्रोत का अर्थ है-

Options :

- 1. ✖ कारण
- 2. ✖ जिम्मेदारी
- 3. ✓ आरंभ
- 4. ✖ वृद्धि

