

DSSSB
Jr Assistant
Previous Year Paper
03 Sept, 2019 Shift 2



Adda247

Test Prime

ALL EXAMS, ONE SUBSCRIPTION



1,00,000+
Mock Tests



**Personalised
Report Card**



**Unlimited
Re-Attempt**



600+
Exam Covered



25,000+ Previous
Year Papers



500%
Refund



ATTEMPT FREE MOCK NOW

Education Consultant India Ltd.

Notations :

- 1.Options shown in green color and with ✓ icon are correct.
- 2.Options shown in red color and with ✖ icon are incorrect.

Question Paper Name:	Grade IV DASS Junior Assistant 03rd September 2019 Shift 2
Subject Name:	GRADE IV DASS JUNIOR ASSISTANT
Creation Date:	2019-09-03 16:22:36
Duration:	120
Total Marks:	200
Display Marks:	Yes
Share Answer Key With Delivery Engine:	No
Actual Answer Key:	Yes
Calculator:	None
Magnifying Glass Required?:	No
Ruler Required?:	No
Eraser Required?:	No
Scratch Pad Required?:	No
Rough Sketch/Notepad Required?:	No
Protractor Required?:	No
Show Watermark on Console?:	Yes
Highlighter:	No
Auto Save on Console?:	No

Mental Ability1

Group Number :	1
Group Id :	5459271051
Group Maximum Duration :	0
Group Minimum Duration :	0
Show Attended Group? :	No
Edit Attended Group? :	No
Break time:	0
Group Marks:	20
Is this Group for Examiner?:	No
Revisit allowed for group Instructions? :	Yes
Maximum Instruction Time:	0
Minimum Instruction Time:	0

Mental Ability1

Section Id :	5459271051
Section Number :	1

Section type :	Online
Mandatory or Optional:	Mandatory
Number of Questions:	20
Number of Questions to be attempted:	20
Section Marks:	20

Sub-Section Number:	1
Sub-Section Id:	5459271261
Question Shuffling Allowed :	Yes

Question Number : 1 Question Id : 54592721211 Question Type : MCQ Option Shuffling : Yes
Correct Marks : 1 Wrong Marks : 0.25

Find out the next term.

Q6W, T13G, K7D, P9G, ____

Options :

1. ✖ R21C
2. ✖ J16Q
3. ✔ N13A
4. ✖ F18C

Question Number : 1 Question Id : 54592721211 Question Type : MCQ Option Shuffling : Yes
Correct Marks : 1 Wrong Marks : 0.25

अगला पद ज्ञात करें।

Q6W, T13G, K7D, P9G, ____

Options :

1. ✖ R21C
2. ✖ J16Q
3. ✔ N13A
4. ✖ F18C

Question Number : 2 Question Id : 54592721212 Question Type : MCQ Option Shuffling : Yes
Correct Marks : 1 Wrong Marks : 0.25

Find the wrong term in the series.

IKM,OPS,TVX,ZBD

Options :

1. ✖ IKM
2. ✔ OPS
3. ✖ TVX
4. ✖ ZBD

Question Number : 2 Question Id : 54592721212 Question Type : MCQ Option Shuffling : Yes
Correct Marks : 1 Wrong Marks : 0.25

श्रृंखला में गलत पद ज्ञात कीजिए।

IKM,OPS,TVX,ZBD

Options :

1. ✖ IKM
2. ✔ OPS
3. ✖ TVX
4. ✖ ZBD

Question Number : 3 Question Id : 54592721213 Question Type : MCQ Option Shuffling : Yes
Correct Marks : 1 Wrong Marks : 0.25

Following question is based on the given word.

If in 'CULTURE' vowels are replaced with its previous letter and consonant are replaced with its next letter then how many vowel are still there in the word?

Options :

1. ✔ One
2. ✖ Two

3. ✖ None

4. ✖ Four

Question Number : 3 Question Id : 54592721213 Question Type : MCQ Option Shuffling : Yes

Correct Marks : 1 Wrong Marks : 0.25

निम्नलिखित प्रश्न दिए गए शब्द पर आधारित है।

यदि 'CULTURE' में स्वरों को उसके पिछले अक्षर से बदल दिया जाता है और व्यंजन को उसके अगले अक्षर से बदल दिया जाता है तो शब्द में अभी भी कितने स्वर हैं?

Options :

1. ✔ एक

2. ✖ दो

3. ✖ कोई नहीं

4. ✖ चार

Question Number : 4 Question Id : 54592721214 Question Type : MCQ Option Shuffling : Yes

Correct Marks : 1 Wrong Marks : 0.25

Choose the odd one from the given alternatives.

Options :

1. ✖ Bat

2. ✔ Ear

3. ✖ Ink

4. ✖ Dog

Question Number : 4 Question Id : 54592721214 Question Type : MCQ Option Shuffling : Yes

Correct Marks : 1 Wrong Marks : 0.25

दिए गए विकल्पों से भिन्न को चुनें।

Options :

1. ✖ Bat

2. ✓ Ear

3. ✗ Ink

4. ✗ Dog

Question Number : 5 Question Id : 54592721215 Question Type : MCQ Option Shuffling : Yes
Correct Marks : 1 Wrong Marks : 0.25

In each of the following questions, certain pairs of words are given, out of which the words in all pairs except one, bear a certain common relationship. Choose the pair in which the words are differently related.

Options :

1. ✗ Truck : Road

2. ✗ Boat : River

3. ✗ Rocket : Space

4. ✓ Jet : Pilot

Question Number : 5 Question Id : 54592721215 Question Type : MCQ Option Shuffling : Yes
Correct Marks : 1 Wrong Marks : 0.25

निम्नलिखित प्रत्येक प्रश्न में, कुछ निश्चित शब्द दिए गए हैं, जिनमें से एक को छोड़कर सभी जोड़े में शब्द एक निश्चित सामान्य संबंध है। उस जोड़ी को चुनें जिसमें शब्द अलग तरह से संबंधित हैं।

Options :

1. ✗ ट्रक: सड़क

2. ✗ नाव: नदी

3. ✗ रॉकेट: अंतरिक्ष

4. ✓ जेट : पायलट

Question Number : 6 Question Id : 54592721216 Question Type : MCQ Option Shuffling : Yes
Correct Marks : 1 Wrong Marks : 0.25

Choose the odd one from the given alternatives.

Options :

1. ✖ FH : JL
2. ✖ DF: HJ
3. ✔ AC : EF
4. ✖ MO : QS

Question Number : 6 Question Id : 54592721216 Question Type : MCQ Option Shuffling : Yes
Correct Marks : 1 Wrong Marks : 0.25

दिए गए विकल्पों में से विषम को चुनिए।

Options :

1. ✖ FH : JL
2. ✖ DF: HJ
3. ✔ AC : EF
4. ✖ MO : QS

Question Number : 7 Question Id : 54592721217 Question Type : MCQ Option Shuffling : Yes
Correct Marks : 1 Wrong Marks : 0.25

In the following question, select the related letter/word/number from the given alternatives.

Belt : LEATHER :: Sofa : _____

Options :

1. ✖ Plastic
2. ✖ Room
3. ✔ Wood
4. ✖ Door

Question Number : 7 Question Id : 54592721217 Question Type : MCQ Option Shuffling : Yes
Correct Marks : 1 Wrong Marks : 0.25

निम्नलिखित प्रश्न में दिए गए विकल्पों में से सम्बन्धित अक्षर/शब्द/संख्या को चुनिए।

बेल्ट: चमड़ा: सोफा: _____

Options :

1. ✖ प्लास्टिक
2. ✖ कक्ष
3. ✔ लकड़ी
4. ✖ दरवाजा

Question Number : 8 Question Id : 54592721218 Question Type : MCQ Option Shuffling : Yes
Correct Marks : 1 Wrong Marks : 0.25

In the following question, select the related letter/word/number from the given alternatives.

MOLECULE : ATOM :: _____ : _____

Options :

1. ✖ Old: new
2. ✖ Theory : postulate
3. ✖ Experiment: invention
4. ✔ Universe: Galaxy

Question Number : 8 Question Id : 54592721218 Question Type : MCQ Option Shuffling : Yes
Correct Marks : 1 Wrong Marks : 0.25

निम्नलिखित प्रश्न में दिए गए विकल्पों में से सम्बन्धित अक्षर/शब्द/संख्या को चुनिए।

अणु : परमाणु :: _____ : _____

Options :

1. ✖ पुराना: नया
2. ✖ सिद्धांत : उत्तरदायी
3. ✖ प्रयोग : आविष्कार
4. ✔ ब्रह्मांड : आकाशगंगा

Question Number : 9 Question Id : 54592721219 Question Type : MCQ Option Shuffling : Yes
Correct Marks : 1 Wrong Marks : 0.25

In the following question, select the related letter/word/number from the given alternatives.

AC : HJ :: BD : _____

Options :

1. ✖ IJ
2. ✖ NM
3. ✔ IK
4. ✖ JI

Question Number : 9 Question Id : 54592721219 Question Type : MCQ Option Shuffling : Yes
Correct Marks : 1 Wrong Marks : 0.25

निम्नलिखित प्रश्न में दिए गए विकल्पों में से सम्बन्धित अक्षर/शब्द/संख्या को चुनिए।

AC : HJ :: BD : _____

Options :

1. ✖ IJ
2. ✖ NM
3. ✔ IK
4. ✖ JI

Question Number : 10 Question Id : 54592721220 Question Type : MCQ Option Shuffling : Yes
Correct Marks : 1 Wrong Marks : 0.25

For the following sentences given in column I, the codes are given in column II. Answer the following questions by finding the codes for the words form the given columns.

Column I	Column II
I do not cheat.	xct fam mat sah
I win the gold medal	oap tok ris sah bax
I am not the last	Cay sah ris ula fam
Manav do not loose	Xct clk fam kel

What is the code for ‘cheat’?

Options :

- 1. ✖ xct
- 2. ✖ fam
- 3. ✔ mat
- 4. ✖ sah

Question Number : 10 Question Id : 54592721220 Question Type : MCQ Option Shuffling : Yes
Correct Marks : 1 Wrong Marks : 0.25

कॉलम I में दिए गए वाक्य के लिए, कॉलम II में कूट दिए गए हैं। दिए गए कॉलम को शब्दों के लिए कूट ढूंढकर निम्नलिखित प्रश्नों के उत्तर दीजिये।

कॉलम I	कॉलम II
I do not cheat.	xct fam mat sah
I win the gold medal	oap tok ris sah bax
I am not the last	Cay sah ris ula fam
Manav do not loose	Xct clk fam kel

‘Cheat’के लिए कूट क्या है?

Options :

1. ✖ xct
2. ✖ fam
3. ✔ mat
4. ✖ sah

Question Number : 11 Question Id : 54592721221 Question Type : MCQ Option Shuffling : Yes

Correct Marks : 1 Wrong Marks : 0.25

In the following question, a group of letters is given which are numbered 1, 2, 3, 4, 5 and 6. Below are given four alternatives containing combinations of these numbers. Select that combination of numbers so that letters arranged accordingly, form a meaningful word.

E N O G R A
1 2 3 4 5 6

Options :

1. ✖ 4, 6, 3, 5, 2, 1
2. ✔ 3, 5, 6, 2, 4, 1
3. ✖ 4, 6, 5, 2, 3, 1
4. ✖ 5, 2, 3, 1, 6, 4

Question Number : 11 Question Id : 54592721221 Question Type : MCQ Option Shuffling : Yes

Correct Marks : 1 Wrong Marks : 0.25

निम्नलिखित प्रश्न में, अक्षरों का एक समूह दिया गया है , जिसे संख्या 1, 2, 3, 4, 5 और 6 नीचे दिए गए हैं, इन संख्याओं के संयोजन वाले चार विकल्प दिए गए हैं। संख्याओं के उस संयोजन का चयन करें जो अक्षरों के अनुसार व्यवस्थित हो,और जिससे एक अर्थपूर्ण शब्द बनता हो।

E	N	O	G	R	A
1	2	3	4	5	6

Options :

1. ✖ 4, 6, 3, 5, 2, 1
2. ✔ 3, 5, 6, 2, 4, 1
3. ✖ 4, 6, 5, 2, 3, 1
4. ✖ 5, 2, 3, 1, 6, 4

Question Number : 12 Question Id : 54592721222 Question Type : MCQ Option Shuffling : Yes
Correct Marks : 1 Wrong Marks : 0.25

In a certain code language, if the word ORGANISE is coded as RAOESING, then how is the word PROGRESS coded in that language?

Options :

1. ✖ EGPSSERO
2. ✖ RHPSTERO
3. ✖ GRPSSERO
4. ✔ RGPSSERO

Question Number : 12 Question Id : 54592721222 Question Type : MCQ Option Shuffling : Yes
Correct Marks : 1 Wrong Marks : 0.25

एक निश्चित कूट भाषा में, ORGANISE शब्द को RAOESING के रूप में कोडित किया जाता है, तो PROGRESS शब्द को उस भाषा में कैसे कोडित किया जाता है?

Options :

1. ✖ EGPSSERO
2. ✖ RHPSTERO
3. ✖ GRPSSERO
4. ✔ RGPSSERO

Question Number : 13 Question Id : 54592721223 Question Type : MCQ Option Shuffling : Yes
Correct Marks : 1 Wrong Marks : 0.25

Eight friends P, R, T, V, W, J, F and K are sitting around a circle facing the centre. T is third to the right of F and second to the left of W. P and R are not neighbours of W. R is third to the right of K. J is between W and K.

Which of the following is the correct position of T with respect of K's position?

Options :

1. ✖ Second to the left
2. ✖ Third to the left
3. ✖ Third to the right
4. ✔ Fourth to the left

Question Number : 13 Question Id : 54592721223 Question Type : MCQ Option Shuffling : Yes
Correct Marks : 1 Wrong Marks : 0.25

आठ दोस्त P, R, T, V, W, J, F और K केंद्र की ओर मुँह करके एक वृत्त के चारों ओर बैठे हैं। T, F के दाये से तीसरा और W के बाये से दूसरा है। P और R, W का पड़ोसी नहीं है। R, K के दाये तीसरा है। J, W और K बीच में है।

निम्न में से कौनसी K की स्थिति के संबंध में T की स्थिति है?

Options :

1. ✖ बाये से दूसरा
2. ✖ बाये से तीसरा
3. ✖ दाये से तीसरा
4. ✔ बाये से चौथा

Question Number : 14 Question Id : 54592721224 Question Type : MCQ Option Shuffling : Yes

Correct Marks : 1 Wrong Marks : 0.25

If (i) Rahul is taller than Shubham ; (ii) Komal is shorter than Rahul; (iii) Deva is taller than Ajay but shorter than Shubham, then who among them is the tallest?

Options :

1. ✖ Ajay
2. ✖ Deva
3. ✔ Rahul
4. ✖ Komal

Question Number : 14 Question Id : 54592721224 Question Type : MCQ Option Shuffling : Yes

Correct Marks : 1 Wrong Marks : 0.25

यदि (i) राहुल, शुभम से लंबा है; (ii) कोमल, राहुल से छोटी है; (iii) देवा, अजय से लंबा है, लेकिन शुभम से छोटा है, तो उनमें से कौन सबसे लंबा है?

Options :

1. ✖ अजय
2. ✖ देवा
3. ✔ राहुल
4. ✖ कोमल

Question Number : 15 Question Id : 54592721225 Question Type : MCQ Option Shuffling : Yes
Correct Marks : 1 Wrong Marks : 0.25

Five girls participated in a competition. Priya was ranked lower than Sandhya. Vidya was ranked higher than Diksha. Kiran's rank was between Priya and Vidya, Who is below Sandhya. Who was ranked highest ?

Options :

1. ✖ Kiran
2. ✖ Vidya
3. ✔ Sandhya
4. ✖ Priya

Question Number : 15 Question Id : 54592721225 Question Type : MCQ Option Shuffling : Yes
Correct Marks : 1 Wrong Marks : 0.25

एक प्रतियोगिता में पांच लड़कियों ने भाग लिया। प्रिया की श्रेणी संध्या से कम है। विद्या, जो संध्या से नीचे हैं, को दीक्षा से उच्च श्रेणी मिली। किरण की रैंक प्रिया और विद्या के बीच है। किसे सर्वोच्च श्रेणी दी गयी?

Options :

1. ✖ किरण
2. ✖ विद्या
3. ✔ संध्या
4. ✖ प्रिया

Question Number : 16 Question Id : 54592721226 Question Type : MCQ Option Shuffling : Yes
Correct Marks : 1 Wrong Marks : 0.25

A team of 3 players is to be selected from Z, Y, X, W, V and U. If X is selected, W cannot be selected. Z and U are either selected together or not selected at all. In how many ways can this team be selected?

Options :

1. ✖ 4
2. ✔ 6
3. ✖ 5
4. ✖ 9

Question Number : 16 Question Id : 54592721226 Question Type : MCQ Option Shuffling : Yes
Correct Marks : 1 Wrong Marks : 0.25

3 खिलाड़ियों की एक टीम को Z, Y, X, W, V और U से चुना जाना है। यदि X का चयन किया जाता है, तो W का चयन नहीं किया जा सकता है। Z और U को या तो एक साथ चुना जाता है या बिल्कुल नहीं चुना जाता है। इस टीम को कितने तरीकों से चुना जा सकता है?

Options :

1. ✖ 4
2. ✔ 6
3. ✖ 5
4. ✖ 9

Question Number : 17 Question Id : 54592721227 Question Type : MCQ Option Shuffling : Yes
Correct Marks : 1 Wrong Marks : 0.25

Pointing to Shikha and Nakul, Priya says, "Both are the children of the only son of my grandfather. "If Shikha says, that "I have as many brothers and sisters as Priya has," then how is Nakul related to Angel, who is a member of Priya's family?

Options :

1. ✖ Brother
2. ✖ Sister
3. ✖ Either brother or sister
4. ✔ Can't be determined

Question Number : 17 Question Id : 54592721227 Question Type : MCQ Option Shuffling : Yes

Correct Marks : 1 Wrong Marks : 0.25

शिखा और नकुल की ओर इशारा करते हुए प्रिया कहती है कि, " ये दोनों मेरे दादाजी/नानाजी के इकलौते बेटे के बच्चे हैं। यदि शिखा कहती है कि "मेरे उतने ही भाई और बहन हैं जितने कि प्रिया के हैं," तो नकुल, ऐंजल से किस प्रकार सम्बंधित होगा जो कि प्रिया के परिवार का एक सदस्य है?

Options :

1. ✖ भाई
2. ✖ बहन
3. ✖ या तो भाई या बहन
4. ✔ ज्ञात नहीं किया जा सकता

Question Number : 18 Question Id : 54592721228 Question Type : MCQ Option Shuffling : Yes

Correct Marks : 1 Wrong Marks : 0.25

In the question below, there are three statements followed by two conclusions. You have to take the given statements to be true even if they seem to be at variance with commonly known facts and then decide which of the given conclusion logically follow(s) from the given statements.

Statements:

- I. All cups are plates.
- II. Some plates are glass.
- III. All mugs are glass.

Conclusion:

- I. Some glass are cups.
- II. Some mugs are cups.

Options :

- 1. ✖ Only conclusion I follows
- 2. ✖ Only conclusion II follows
- 3. ✖ Either conclusion I or II follows
- 4. ✔ Neither conclusion follows

Question Number : 18 Question Id : 54592721228 Question Type : MCQ Option Shuffling : Yes
Correct Marks : 1 Wrong Marks : 0.25

नीचे दिए गए प्रश्न में तीन कथन और उसके बाद दो निष्कर्ष दिए गए हैं। आपको दिए गए कथनों को सत्य मानना है भले ही वे सर्वज्ञात तथ्यों से भिन्न प्रतीत होते हों। सभी निष्कर्षों को पढ़िए फिर तय कीजिए कि दिए गए निष्कर्षों में से कौन सा तर्कसंगत रूप से अनुसरण करता है, चाहे सर्वज्ञात तथ्य कुछ भी हों।

कथन:

- I. सभी कप, प्लेट हैं।
- II. कुछ प्लेट, गिलास हैं।
- III. सभी मग, गिलास हैं।

निष्कर्ष:

- I. कुछ गिलास, कप हैं।
- II. कुछ मग, कप हैं।

Options :

1. ✖ केवल निष्कर्ष I अनुसरण करता है
2. ✖ केवल निष्कर्ष II अनुसरण करता है
3. ✖ या तो निष्कर्ष I या II अनुसरण करता है
4. ✔ कोई निष्कर्ष अनुसरण नहीं करता

In the following question, there is a statement followed by two courses of action, numbered I and II. You have to assume everything in the statement to be true to decide which of the two suggested courses of action logically follows for pursuing

Statement:

Number of student suicides in India are increasing alarmingly.

Course of actions:

I. Cancel annual examinations.

II. Suspend all the Vice Chancellors.

Options :

1. ✖ Only I follows

2. ✖ Only II follows

3. ✖ Either I or II follows

4. ✔ Neither I nor II follows

Question Number : 19 Question Id : 54592721229 Question Type : MCQ Option Shuffling : Yes

Correct Marks : 1 Wrong Marks : 0.25

निम्नलिखित प्रश्न में, एक कथन के बाद दो कार्यवाही । और ॥ है। आपको इस कथन को सत्य मान कर तय करना है की दी गयी दो कार्यवाही में से कौन सा तार्किक रूप से सही है।

कथन:

भारत में छात्र आत्महत्याओं की संख्या खतरनाक रूप से बढ़ रही है।

कार्यवाहियां:

- I. वार्षिक परीक्षाएँ रद्द करें
- II सभी कुलपतियों को निलंबित करें।

Options :

1. * केवल I अनुसरण करता है।
2. * केवल II अनुसरण करता है।
3. * या तो I या II अनुसरण करता है।
4. ✓ न तो I और न ही II अनुसरण करता है।

Question Number : 20 Question Id : 54592721230 Question Type : MCQ Option Shuffling : Yes

Correct Marks : 1 Wrong Marks : 0.25

Select the option that will come in place of question mark and complete the below series. This term is given as one of the alternatives. Mark the correct alternative.

45, 54, 47, 63, 49, 72, 51, ?

Options :

1. ✓ 81
2. * 71
3. * 65

4. ✖ 98

Question Number : 20 Question Id : 54592721230 Question Type : MCQ Option Shuffling : Yes
Correct Marks : 1 Wrong Marks : 0.25

उस विकल्प का चयन करे जो नीचे दी गई श्रृंखला में प्रश्न चिन्ह के जगह आ कर श्रृंखला को पूरा करे। यह पद विकल्प के रूप में दिया गया है। सही विकल्प का चयन करें।

45, 54, 47, 63, 49, 72, 51, ?

Options :

1. ✔ 81

2. ✖ 71

3. ✖ 65

4. ✖ 98

Group Number :	2
Group Id :	5459271052
Group Maximum Duration :	0
Group Minimum Duration :	0
Show Attended Group? :	No
Edit Attended Group? :	No
Break time:	0
Group Marks:	20
Is this Group for Examiner?:	No
Revisit allowed for group Instructions? :	Yes
Maximum Instruction Time:	0
Minimum Instruction Time:	0

Mental Ability2

Section Id :	5459271052
Section Number :	1
Section type :	Online
Mandatory or Optional:	Mandatory
Number of Questions:	20

Number of Questions to be attempted: 20
Section Marks: 20

Sub-Section Number: 1
Sub-Section Id: 5459271262
Question Shuffling Allowed : Yes

Question Number : 21 Question Id : 54592721231 Question Type : MCQ Option Shuffling : Yes
Correct Marks : 1 Wrong Marks : 0.25

In the following question, one number is wrong in the series.
Find out the wrong number.

25, 52, 108, 214

Options :

1. ✖ 25
2. ✖ 52
3. ✖ 214
4. ✔ 108

Question Number : 21 Question Id : 54592721231 Question Type : MCQ Option Shuffling : Yes
Correct Marks : 1 Wrong Marks : 0.25

निम्नलिखित प्रश्न में, श्रृंखला में एक संख्या गलत है। गलत संख्या
ज्ञात कीजिए।

25, 52, 108, 214

Options :

1. ✖ 25
2. ✖ 52
3. ✖ 214
4. ✔ 108

Question Number : 22 Question Id : 54592721232 Question Type : MCQ Option Shuffling : Yes
Correct Marks : 1 Wrong Marks : 0.25

Choose the odd number from the given options.

Options :

1. ✖ 464

2. ✔ 210

3. ✖ 380

4. ✖ 492

Question Number : 22 Question Id : 54592721232 Question Type : MCQ Option Shuffling : Yes

Correct Marks : 1 Wrong Marks : 0.25

दिए गए विकल्पों में से भिन्न संख्या को चुनें।

Options :

1. ✖ 464

2. ✔ 210

3. ✖ 380

4. ✖ 492

Question Number : 23 Question Id : 54592721233 Question Type : MCQ Option Shuffling : Yes

Correct Marks : 1 Wrong Marks : 0.25

Choose the odd numeral pair/group in each of the following question.

Options :

1. ✖ 78 : 22

2. ✖ 43 : 57

3. ✖ 39 : 61

4. ✔ 45 : 63

Question Number : 23 Question Id : 54592721233 Question Type : MCQ Option Shuffling : Yes

Correct Marks : 1 Wrong Marks : 0.25

निम्नलिखित प्रत्येक प्रश्न में विषम संख्या वाले युग्म / समूह को चुनिए

|

Options :

1. ✖ 78 : 22

2. ✖ 43 : 57

3. ✖ 39 : 61

4. ✔ 45 : 63

Question Number : 24 Question Id : 54592721234 Question Type : MCQ Option Shuffling : Yes
Correct Marks : 1 Wrong Marks : 0.25

Find the odd one out from the following.

Options :

1. ✖ 12 : 15: 182

2. ✖ 13 : 11 : 145

3. ✖ 17 : 9 : 155

4. ✔ 15 : 16 : 240

Question Number : 24 Question Id : 54592721234 Question Type : MCQ Option Shuffling : Yes
Correct Marks : 1 Wrong Marks : 0.25

निम्नलिखित में से विषम ज्ञात कीजिए।

Options :

1. ✖ 12 : 15: 182

2. ✖ 13 : 11 : 145

3. ✖ 17 : 9 : 155

4. ✔ 15 : 16 : 240

Question Number : 25 Question Id : 54592721235 Question Type : MCQ Option Shuffling : Yes
Correct Marks : 1 Wrong Marks : 0.25

In the following question, select the option that is related to the below bracketed number series.

(24, 40, 56)

Options :

1. ✖ (18, 30, 36)
2. ✔ (15, 25, 35)
3. ✖ (27, 45, 72)
4. ✖ (9, 15, 18)

Question Number : 25 Question Id : 54592721235 Question Type : MCQ Option Shuffling : Yes
Correct Marks : 1 Wrong Marks : 0.25

निम्नलिखित प्रश्न में दिए गए विकल्पों में से उस विकल्प को चुने जो नीचे दिए संख्या के श्रृंखला से संबंध रखता हो।

(24, 40, 56)

Options :

1. ✖ (18, 30, 36)
2. ✔ (15, 25, 35)
3. ✖ (27, 45, 72)
4. ✖ (9, 15, 18)

Question Number : 26 Question Id : 54592721236 Question Type : MCQ Option Shuffling : Yes
Correct Marks : 1 Wrong Marks : 0.25

Find the missing number in the following question.

8	17	33
12	5	29
10	13	?

Options :

1. ✖ 9
2. ✖ 23
3. ✔ 33
4. ✖ 43

Question Number : 26 Question Id : 54592721236 Question Type : MCQ Option Shuffling : Yes
Correct Marks : 1 Wrong Marks : 0.25

निम्नलिखित प्रश्न में लुप्त संख्या ज्ञात कीजिए।

8	17	33
12	5	29
10	13	?

Options :

1. ✖ 9
2. ✖ 23
3. ✔ 33
4. ✖ 43

Question Number : 27 Question Id : 54592721237 Question Type : MCQ Option Shuffling : Yes
Correct Marks : 1 Wrong Marks : 0.25

Given interchanges: signs - and \times , and numbers 8 and 4; then the value of $4 + 2 \div 2 \times 8 - 3$ is:

Options :

1. ✖ 5
2. ✔ -3
3. ✖ 4
4. ✖ -4

Question Number : 27 Question Id : 54592721237 Question Type : MCQ Option Shuffling : Yes
Correct Marks : 1 Wrong Marks : 0.25

दिए गए पस्पर विनिमय: चिन्ह- और \times , और संख्या 8 और 4; तो $4 + 2 \div 2 \times 8 - 3$ का मान है:

Options :

1. ✖ 5
2. ✔ -3

3. ✖ 4

4. ✖ -4

Question Number : 28 Question Id : 54592721238 Question Type : MCQ Option Shuffling : Yes
Correct Marks : 1 Wrong Marks : 0.25

In the question given below, there is a statements followed by two conclusions. You have to take the given statement to be true even if they seem to be at variance with commonly known facts and then decide which of the given conclusion logically follow(s) from the given statements.

Statements:

$P \geq Q < R = M, R \geq F$

Conclusions:

I. $F < Q$

II. $P \geq M$

Options :

1. ✖ Only conclusion I follows
2. ✖ Only conclusion II follows
3. ✖ Either conclusion I or II follows
4. ✔ Neither conclusion follows

Question Number : 28 Question Id : 54592721238 Question Type : MCQ Option Shuffling : Yes
Correct Marks : 1 Wrong Marks : 0.25

नीचे दिए गए प्रश्न में, एक कथन के बाद दो निष्कर्ष दिए गए हैं। आपको दिए गए कथन को सत्य मानना है, भले ही वे आम तौर पर ज्ञात तथ्यों के साथ विचरण करते हों और फिर तय करें कि दिए गए कथनों में से कौन सा निष्कर्ष तार्किक रूप से अनुसरण करता है।

कथन:

$$P \geq Q < R = M, R \geq F$$

निष्कर्ष:

I. $F < Q$

II. $P \geq M$

Options :

1. ✖ केवल निष्कर्ष I अनुसरण करता है
2. ✖ केवल निष्कर्ष II अनुसरण करता है
3. ✖ या तो निष्कर्ष I या II अनुसरण करता है
4. ✔ कोई निष्कर्ष अनुसरण नहीं करता

Question Number : 29 Question Id : 54592721239 Question Type : MCQ Option Shuffling : Yes

Correct Marks : 1 Wrong Marks : 0.25

In the following question, select the option that is related to the below bracketed number series.

(8, 3, 15)

Options :

1. ✔ (5, 7, 14)
2. ✖ (6, 7, 14)
3. ✖ (5, 17, 15)
4. ✖ (9, 15, 18)

Question Number : 29 Question Id : 54592721239 Question Type : MCQ Option Shuffling : Yes

Correct Marks : 1 Wrong Marks : 0.25

निम्नलिखित प्रश्न में दिए गए विकल्पों में से उस विकल्प को चुने जो नीचे दिए संख्या के श्रृंखला से संबंध रखता हो।

(8, 3, 15)

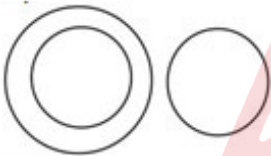

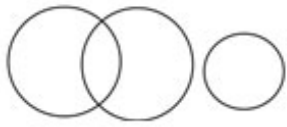
Options :

1. ✓ (5, 7, 14)
2. ✗ (6, 7, 14)
3. ✗ (5, 17, 15)
4. ✗ (9, 15, 18)

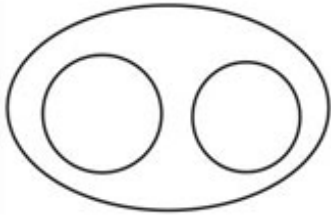
Question Number : 30 Question Id : 54592721240 Question Type : MCQ Option Shuffling : Yes
Correct Marks : 1 Wrong Marks : 0.25

Which of the following diagrams best represents a relationship among Animal, Tiger and Elephant?

Options :

1. ✗ 
2. ✗ 
3. ✗ 

4. ✓

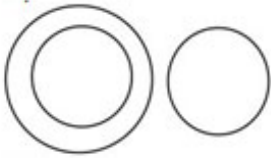


Question Number : 30 Question Id : 54592721240 Question Type : MCQ Option Shuffling : Yes
Correct Marks : 1 Wrong Marks : 0.25

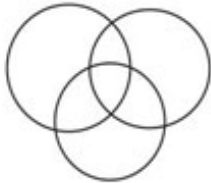
निम्नलिखित में से कौन सा चित्र पशु, बाघ और हाथी के बीच संबंध को दर्शाता है?

Options :

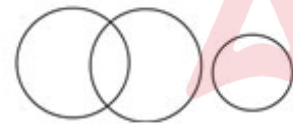
1. ✗



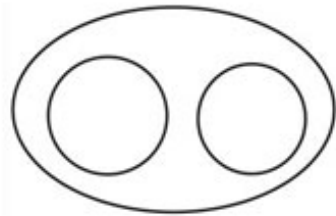
2. ✗



3. ✗

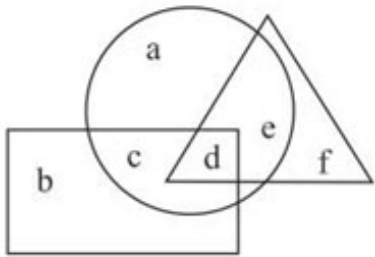


4. ✓



Question Number : 31 Question Id : 54592721241 Question Type : MCQ Option Shuffling : Yes
Correct Marks : 1 Wrong Marks : 0.25

In the given figure, the circle represents Operators, rectangle represents Teacher and triangle represents Typist. which letter represents those who are operator and typist also but not teacher?

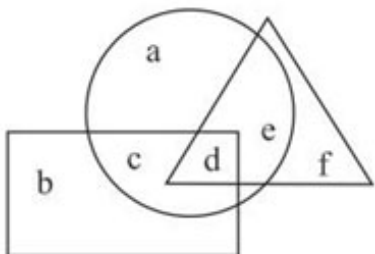


Options :

1. ✓ e
2. ✗ f
3. ✗ d
4. ✗ c

Question Number : 31 Question Id : 54592721241 Question Type : MCQ Option Shuffling : Yes
Correct Marks : 1 Wrong Marks : 0.25

दी गयी आकृतियों में वृत्त, ऑपरेटर्स को, आयत शिक्षक को और त्रिभुज टाइपिस्ट को दर्शाता है। कौन सा अक्षर उन लोगों को दर्शाता है जो ऑपरेटर और टाइपिस्ट भी हैं, लेकिन शिक्षक नहीं?



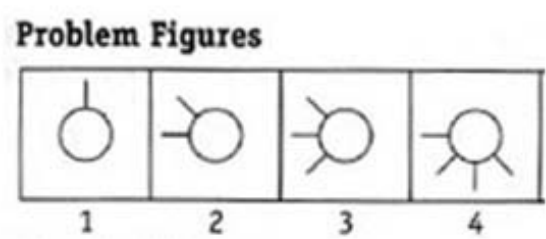
Options :

1. ✓ e
2. ✗ f
3. ✗ d

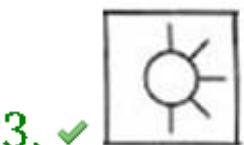
4. ✖ c

Question Number : 32 Question Id : 54592721242 Question Type : MCQ Option Shuffling : Yes
Correct Marks : 1 Wrong Marks : 0.25

Complete the series by choosing right figure from the given choices.



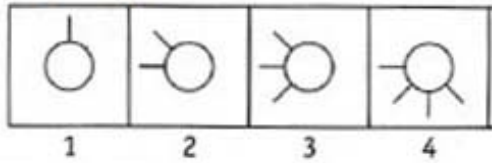
Options :



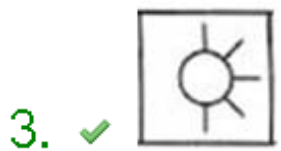
Question Number : 32 Question Id : 54592721242 Question Type : MCQ Option Shuffling : Yes
Correct Marks : 1 Wrong Marks : 0.25

दिए गए विकल्पों में से सही उत्तर चुनकर श्रृंखला को पूरा करें।

प्रश्न आकृति



Options :

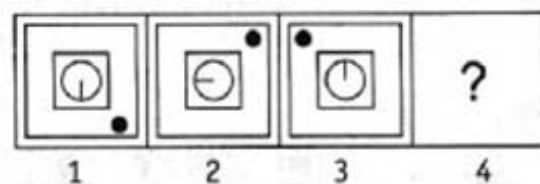


Question Number : 33 Question Id : 54592721243 Question Type : MCQ Option Shuffling : Yes

Correct Marks : 1 Wrong Marks : 0.25

Complete the series by choosing right figure from the given choices.

Problem Figures



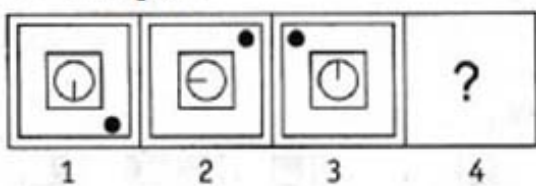
Options :



Question Number : 33 Question Id : 54592721243 Question Type : MCQ Option Shuffling : Yes
Correct Marks : 1 Wrong Marks : 0.25

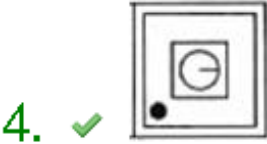
दिए गए विकल्पों में से सही उत्तर चुनकर श्रृंखला को पूरा करें।

प्रश्न आकृति



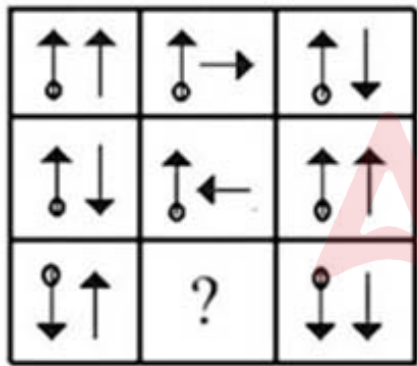
Options :



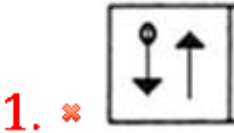


Question Number : 34 Question Id : 54592721244 Question Type : MCQ Option Shuffling : Yes
Correct Marks : 1 Wrong Marks : 0.25

Find the missing figure in the given matrix.



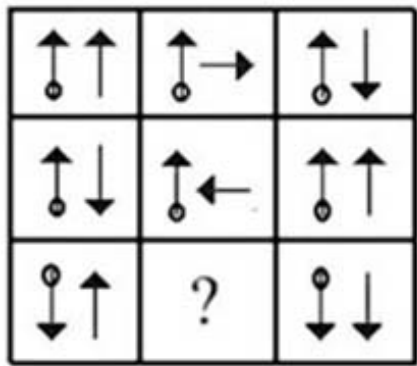
Options :





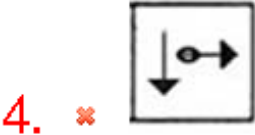
Question Number : 34 Question Id : 54592721244 Question Type : MCQ Option Shuffling : Yes
Correct Marks : 1 Wrong Marks : 0.25

दिए गए मैट्रिक्स में लुप्त आकृति ज्ञात कीजिए।



Options :





Question Number : 35 Question Id : 54592721245 Question Type : MCQ Option Shuffling : Yes
Correct Marks : 1 Wrong Marks : 0.25

Three of the four figures are in a sequence or similarity in some way or the other. You have to choose the figure which is odd /different:

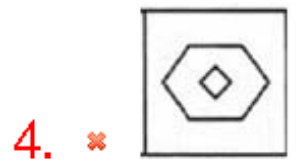
Options :



Question Number : 35 Question Id : 54592721245 Question Type : MCQ Option Shuffling : Yes
Correct Marks : 1 Wrong Marks : 0.25

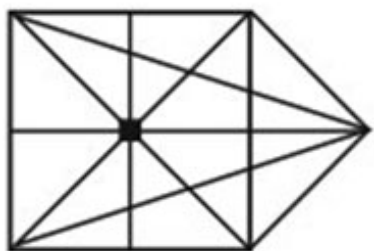
चार में से तीन आंकड़े किसी क्रम या समानता में किसी न किसी तरह से एक हैं। आपको वह आकृति चुननी होगी जो विषम / भिन्न हो:

Options :



Question Number : 36 Question Id : 54592721246 Question Type : MCQ Option Shuffling : Yes
Correct Marks : 1 Wrong Marks : 0.25

How many straight lines are there in the following figure?



Options :

1. ✖ 10

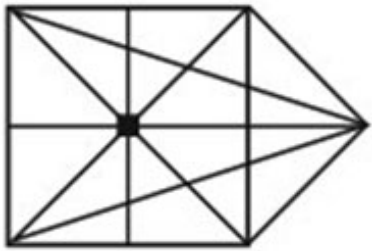
2. ✓ 12

3. ✗ 13

4. ✗ 17

Question Number : 36 Question Id : 54592721246 Question Type : MCQ Option Shuffling : Yes
Correct Marks : 1 Wrong Marks : 0.25

नीचे दी गई आकृति में कितनी सीधी रेखाएँ हैं?



Options :

1. ✗ 10

2. ✓ 12

3. ✗ 13

4. ✗ 17

Question Number : 37 Question Id : 54592721247 Question Type : MCQ Option Shuffling : Yes
Correct Marks : 1 Wrong Marks : 0.25

Three positions of a cube are given. Based on them, find out, which number is found opposite to number 4 in a given cube?



Options :

1. ✗ 3

2. ✗ 5

3. ✗ 1

4. ✓ 6

Question Number : 37 Question Id : 54592721247 Question Type : MCQ Option Shuffling : Yes
Correct Marks : 1 Wrong Marks : 0.25

एक घन के तीन स्थितियां दिए गए हैं। उनके आधार पर, ज्ञात कीजिए कि दिए गए घन में संख्या 4 के विपरीत कौन सी संख्या है?



Options :

1. ✗ 3

2. ✗ 5

3. ✗ 1

4. ✓ 6

Question Number : 38 Question Id : 54592721248 Question Type : MCQ Option Shuffling : Yes
Correct Marks : 1 Wrong Marks : 0.25

In the given question find the answer figure in which question figure is embedded.



Options :




1. ✗



Question Number : 38 Question Id : 54592721248 Question Type : MCQ Option Shuffling : Yes
Correct Marks : 1 Wrong Marks : 0.25

दिए गए प्रश्न में उत्तर आकृति ज्ञात कीजिए जिसमें प्रश्न आकृति सन्निहित है।



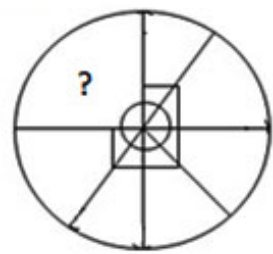
Options :





Question Number : 39 Question Id : 54592721249 Question Type : MCQ Option Shuffling : Yes
Correct Marks : 1 Wrong Marks : 0.25

Which answer figure will complete the pattern in the question figure?

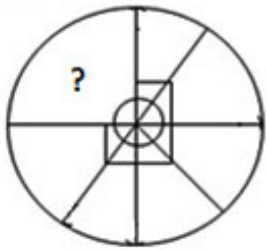


Options :



Question Number : 39 Question Id : 54592721249 Question Type : MCQ Option Shuffling : Yes
Correct Marks : 1 Wrong Marks : 0.25

कौन सी उत्तर आकृति प्रश्न आकृति में पैटर्न को पूरा करेगी?



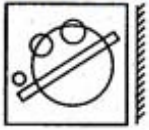
Options :



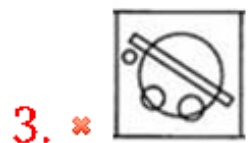
Question Number : 40 Question Id : 54592721250 Question Type : MCQ Option Shuffling : Yes
Correct Marks : 1 Wrong Marks : 0.25

Which of the following choices is the exact mirror image of the main figure.

Question Figure



Options :



Question Number : 40 Question Id : 54592721250 Question Type : MCQ Option Shuffling : Yes
Correct Marks : 1 Wrong Marks : 0.25

निम्नलिखित में से कौन सा विकल्प मुख्य आकृति की सटीक दर्पण छवि है।

प्रश्न आकृति



Options :

1.



2.



3.



4.



General Awareness1

Group Number :	3
Group Id :	5459271053
Group Maximum Duration :	0
Group Minimum Duration :	0
Show Attended Group? :	No
Edit Attended Group? :	No
Break time:	0
Group Marks:	20
Is this Group for Examiner?:	No
Revisit allowed for group Instructions? :	Yes
Maximum Instruction Time:	0
Minimum Instruction Time:	0

General Awareness1

Section Id :	5459271053
Section Number :	1
Section type :	Online
Mandatory or Optional:	Mandatory
Number of Questions:	20

Number of Questions to be attempted: 20
Section Marks: 20

Sub-Section Number: 1
Sub-Section Id: 5459271263
Question Shuffling Allowed : Yes

Question Number : 41 Question Id : 54592721251 Question Type : MCQ Option Shuffling : Yes
Correct Marks : 1 Wrong Marks : 0.25

Which World heritage site shows origin of dance in India?

Options :

1. ✖ Hampi
2. ✔ Bhimbetka
3. ✖ Khajuraho
4. ✖ Sanchi

Question Number : 41 Question Id : 54592721251 Question Type : MCQ Option Shuffling : Yes
Correct Marks : 1 Wrong Marks : 0.25

कौन -सा विश्व धरोहर स्थल भारत में नृत्य की उत्पत्ति दर्शाता है ?

Options :

1. ✖ हम्पी
2. ✔ भीमबेटका
3. ✖ खजुराहो
4. ✖ साँची

Question Number : 42 Question Id : 54592721252 Question Type : MCQ Option Shuffling : Yes
Correct Marks : 1 Wrong Marks : 0.25

Which of the following is a traditional folk dance of Jammu & Kashmir?

Options :

1. ✖ Gafa
2. ✖ Dappu
3. ✔ Dumhal

4. ✖ Jhora

Question Number : 42 Question Id : 54592721252 Question Type : MCQ Option Shuffling : Yes
Correct Marks : 1 Wrong Marks : 0.25

निम्नलिखित में से कौन-सा पारंपरिक लोक नृत्य जम्मू कश्मीर का है?

Options :

1. ✖ गफा
2. ✖ दप्पू
3. ✔ दुमहल
4. ✖ झोरा

Question Number : 43 Question Id : 54592721253 Question Type : MCQ Option Shuffling : Yes
Correct Marks : 1 Wrong Marks : 0.25

Where does world's only hanging temple (monastery) situated?

Options :

1. ✔ China
2. ✖ Hong Kong
3. ✖ Myanmar
4. ✖ Indonesia

Question Number : 43 Question Id : 54592721253 Question Type : MCQ Option Shuffling : Yes
Correct Marks : 1 Wrong Marks : 0.25

दुनिया का एकमात्र लटका हुआ मंदिर (मठ) कहाँ स्थित है?

Options :

1. ✔ चीन
2. ✖ हांगकांग
3. ✖ म्यांमार
4. ✖ इंडोनेशिया

Question Number : 44 Question Id : 54592721254 Question Type : MCQ Option Shuffling : Yes
Correct Marks : 1 Wrong Marks : 0.25

When is World Music day celebrated?

Options :

- 1. ✖ 23rd June
- 2. ✔ 21st June
- 3. ✖ 26th June
- 4. ✖ 20th June

Question Number : 44 Question Id : 54592721254 Question Type : MCQ Option Shuffling : Yes

Correct Marks : 1 Wrong Marks : 0.25

विश्व संगीत दिवस कब मनाया जाता है?

Options :

- 1. ✖ 23 जून
- 2. ✔ 21 जून
- 3. ✖ 26 जून
- 4. ✖ 20 जून

Question Number : 45 Question Id : 54592721255 Question Type : MCQ Option Shuffling : Yes

Correct Marks : 1 Wrong Marks : 0.25

In which of the following country the concept of Goods and Service Tax (GST) is originated?

Options :

- 1. ✖ India
- 2. ✖ Britain
- 3. ✔ France
- 4. ✖ Germany

Question Number : 45 Question Id : 54592721255 Question Type : MCQ Option Shuffling : Yes

Correct Marks : 1 Wrong Marks : 0.25

निम्नलिखित में से किस देश में गुड्स एंड सर्विस टैक्स (GST) की सिद्धांत उत्पन्न हुई ?

Options :

1. ✖ भारत
2. ✖ ब्रिटेन
3. ✔ फ्रांस
4. ✖ जर्मनी

Question Number : 46 Question Id : 54592721256 Question Type : MCQ Option Shuffling : Yes
Correct Marks : 1 Wrong Marks : 0.25

In the HDI ranking 2018, what was the ranking of India?

Options :

1. ✖ 132
2. ✔ 130
3. ✖ 131
4. ✖ 133

Question Number : 46 Question Id : 54592721256 Question Type : MCQ Option Shuffling : Yes
Correct Marks : 1 Wrong Marks : 0.25

मानव सूचकांक रैंकिंग 2018 में, भारत की रैंकिंग क्या थी?

Options :

1. ✖ 132
2. ✔ 130
3. ✖ 131
4. ✖ 133

Question Number : 47 Question Id : 54592721257 Question Type : MCQ Option Shuffling : Yes
Correct Marks : 1 Wrong Marks : 0.25

What will happen if RBI increases cash reserve ratio (CRR)?

Options :

1. ✔ Supply of money decreases in the economy
2. ✖ Supply of money increases in the economy
3. ✖ Supply of money will be unaffected in the economy

4. ✖ Initial increment in supply but later decrement in supply of money

Question Number : 47 Question Id : 54592721257 Question Type : MCQ Option Shuffling : Yes
Correct Marks : 1 Wrong Marks : 0.25

यदि रिज़र्व बैंक ऑफ़ इंडिया नकदी आरक्षित अनुपात (CRR) बढ़ाता है तो क्या होगा?

Options :

1. ✓ अर्थव्यवस्था में धन की आपूर्ति कम हो जाएगी
2. ✖ अर्थव्यवस्था में धन की आपूर्ति बढ़ जाएगी
3. ✖ अर्थव्यवस्था में धन की आपूर्ति अप्रभावित रहेगी
4. ✖ प्रारम्भ में आपूर्ति में वृद्धि लेकिन बाद में धन की आपूर्ति में कमी

Question Number : 48 Question Id : 54592721258 Question Type : MCQ Option Shuffling : Yes
Correct Marks : 1 Wrong Marks : 0.25

Find the incorrect pair in the following.

Options :

1. ✖ Candela – Luminous Intensity
2. ✖ Ampere- Current
3. ✓ Parsec- Time
4. ✖ Light Year- Distance

Question Number : 48 Question Id : 54592721258 Question Type : MCQ Option Shuffling : Yes
Correct Marks : 1 Wrong Marks : 0.25

निम्नलिखित में गलत जोड़ी ज्ञात कीजिए।

Options :

1. ✖ कैंडेला -प्रकाश तीव्रता
2. ✖ विद्युत-धारा
3. ✓ पारसेक- समय
4. ✖ प्रकाश वर्ष- दूरी

Question Number : 49 Question Id : 54592721259 Question Type : MCQ Option Shuffling : Yes

Correct Marks : 1 Wrong Marks : 0.25

Which acid is used in aqua-regia?

Options :

1. ✖ Sulphuric Acid (H_2SO_4)
2. ✔ Nitric Acid (HNO_3)
3. ✖ Hydobromic Acid (HBr)
4. ✖ Acetic Acid (CH_3COOH)

Question Number : 49 Question Id : 54592721259 Question Type : MCQ Option Shuffling : Yes

Correct Marks : 1 Wrong Marks : 0.25

एक्वा-रेजिया में किस अम्ल का उपयोग किया जाता है?

Options :

1. ✖ सल्फ्यूरिक एसिड (H_2SO_4)
2. ✔ नाइट्रिक एसिड (HNO_3)
3. ✖ हाइड्रोब्रोमिक एसिड (HBr)
4. ✖ एसिटिक एसिड (CH_3COOH)

Question Number : 50 Question Id : 54592721260 Question Type : MCQ Option Shuffling : Yes

Correct Marks : 1 Wrong Marks : 0.25

Which part of human body is affected by encephalitis (Chamki fever)?

Options :

1. ✖ Stomach
2. ✔ Brain
3. ✖ Lungs
4. ✖ Intestine

Question Number : 50 Question Id : 54592721260 Question Type : MCQ Option Shuffling : Yes

Correct Marks : 1 Wrong Marks : 0.25

इंसेफेलाइटिस (चमकी बुखार) से मानव शरीर का कौन सा अंग प्रभावित होता है?

Options :

1. ✖ पेट
2. ✔ मस्तिष्क
3. ✖ फेफड़े
4. ✖ आंत

Question Number : 51 Question Id : 54592721261 Question Type : MCQ Option Shuffling : Yes

Correct Marks : 1 Wrong Marks : 0.25

Pellagra is caused by the deficiency of which vitamin?

Options :

1. ✖ Vitamin B1
2. ✔ Vitamin B3
3. ✖ Vitamin B6
4. ✖ Vitamin B12

Question Number : 51 Question Id : 54592721261 Question Type : MCQ Option Shuffling : Yes

Correct Marks : 1 Wrong Marks : 0.25

पेलाग्रा किस विटामिन की कमी के कारण होता है?

Options :

1. ✖ Vitamin B1
2. ✔ Vitamin B3
3. ✖ Vitamin B6
4. ✖ Vitamin B12

Question Number : 52 Question Id : 54592721262 Question Type : MCQ Option Shuffling : Yes

Correct Marks : 1 Wrong Marks : 0.25

Which surgeon used google glass for surgery for the first time?

Options :

1. ✖ Dr. Naresh Trehan
2. ✖ Dr. Charles R. Drew
3. ✔ Dr. Rafael Grossmann
4. ✖ Dr. Rand Paul

Question Number : 52 Question Id : 54592721262 Question Type : MCQ Option Shuffling : Yes
Correct Marks : 1 Wrong Marks : 0.25

किस सर्जन ने पहली बार सर्जरी के लिए गूगल ग्लास का इस्तेमाल किया था?

Options :

1. ✖ डॉ. नरेश त्रेहन
2. ✖ डॉ. चार्ल्स आर. ड्रू
3. ✔ डॉ. राफेल ग्रॉसमैन
4. ✖ डॉ. रैंड पॉल

Question Number : 53 Question Id : 54592721263 Question Type : MCQ Option Shuffling : Yes
Correct Marks : 1 Wrong Marks : 0.25

Which of the following refers to Darwin Finches?

Options :

1. ✖ Snakes
2. ✖ Amphibians
3. ✖ Bats
4. ✔ Birds

Question Number : 53 Question Id : 54592721263 Question Type : MCQ Option Shuffling : Yes
Correct Marks : 1 Wrong Marks : 0.25

निम्नलिखित में से कौनसा विकल्प डार्विन फिंचेस को संदर्भित करता है?

Options :

1. ✖ सांप
2. ✖ उभयचर

3. ✖ चमगादड़

4. ✔ पक्षी

Question Number : 54 Question Id : 54592721264 Question Type : MCQ Option Shuffling : Yes
Correct Marks : 1 Wrong Marks : 0.25

What was the theme of World Water Day 2019?

Options :

1. ✔ Leaving no one behind

2. ✖ Nature for Water

3. ✖ Why waste water?

4. ✖ Water and Sustainable development

Question Number : 54 Question Id : 54592721264 Question Type : MCQ Option Shuffling : Yes
Correct Marks : 1 Wrong Marks : 0.25

विश्व जल दिवस 2019 की थीम क्या थी?

Options :

1. ✔ किसी को पीछे नहीं छोड़ना

2. ✖ पानी के लिए प्रकृति

3. ✖ पानी क्यों बर्बाद करें?

4. ✖ जल और सतत विकास

Question Number : 55 Question Id : 54592721265 Question Type : MCQ Option Shuffling : Yes
Correct Marks : 1 Wrong Marks : 0.25

By what percentage the forest cover area of India has increased in 2017-2018?

Options :

1. ✖ 0.9 percent

2. ✔ 1 percent

3. ✖ 1.2 percent

4. ✖ 1.3 percent

Question Number : 55 Question Id : 54592721265 Question Type : MCQ Option Shuffling : Yes
Correct Marks : 1 Wrong Marks : 0.25

साल 2017-2018 में भारत के वन क्षेत्र में कितने प्रतिशत की वृद्धि हुई है?

Options :

- 1. ✖ 0.9 प्रतिशत
- 2. ✔ 1 प्रतिशत
- 3. ✖ 1.2 प्रतिशत
- 4. ✖ 1.3 प्रतिशत

Question Number : 56 Question Id : 54592721266 Question Type : MCQ Option Shuffling : Yes
Correct Marks : 1 Wrong Marks : 0.25

What is the percentage of irrigated land in India as of July 2019?

Options :

- 1. ✖ 25 percent
- 2. ✔ 35 percent
- 3. ✖ 45 percent
- 4. ✖ 65 percent

Question Number : 56 Question Id : 54592721266 Question Type : MCQ Option Shuffling : Yes
Correct Marks : 1 Wrong Marks : 0.25

जुलाई 2019 तक भारत में सिंचित भूमि का प्रतिशत कितना है?

Options :

- 1. ✖ 25 प्रतिशत
- 2. ✔ 35 प्रतिशत
- 3. ✖ 45 प्रतिशत
- 4. ✖ 65 प्रतिशत

Question Number : 57 Question Id : 54592721267 Question Type : MCQ Option Shuffling : Yes
Correct Marks : 1 Wrong Marks : 0.25

On which river Almatti dam is constructed?

Options :

1. ✖ Ganga
2. ✖ Kaveri
3. ✓ Krishna
4. ✖ Mahanadi

Question Number : 57 Question Id : 54592721267 Question Type : MCQ Option Shuffling : Yes

Correct Marks : 1 Wrong Marks : 0.25

अल्माटी बांध का निर्माण किस नदी पर किया गया है?

Options :

1. ✖ गंगा
2. ✖ कावेरी
3. ✓ कृष्णा
4. ✖ महानदी

Question Number : 58 Question Id : 54592721268 Question Type : MCQ Option Shuffling : Yes

Correct Marks : 1 Wrong Marks : 0.25

Which pass is situated between Ladakh and Tibet?

Options :

1. ✓ Chang La
2. ✖ Lanak La
3. ✖ Khardung La
4. ✖ Zoji La

Question Number : 58 Question Id : 54592721268 Question Type : MCQ Option Shuffling : Yes

Correct Marks : 1 Wrong Marks : 0.25

लद्दाख और तिब्बत के बीच कौन सा दर्रा स्थित है?

Options :

1. ✓ चांग ला
2. ✖ लानक ला

3. ✖ खारदुंग ला

4. ✖ जोजी ला

Question Number : 59 Question Id : 54592721269 Question Type : MCQ Option Shuffling : Yes

Correct Marks : 1 Wrong Marks : 0.25

‘Gir Kesar’ is a famous variety of which of the following?

Options :

1. ✖ Pepper

2. ✖ Saffron

3. ✔ Mango

4. ✖ Apple

Question Number : 59 Question Id : 54592721269 Question Type : MCQ Option Shuffling : Yes

Correct Marks : 1 Wrong Marks : 0.25

‘गिर केसर’ निम्नलिखित में से किसकी प्रसिद्ध किस्म है?

Options :

1. ✖ काली मिर्च

2. ✖ केसर

3. ✔ आम

4. ✖ सेब

Question Number : 60 Question Id : 54592721270 Question Type : MCQ Option Shuffling : Yes

Correct Marks : 1 Wrong Marks : 0.25

What is the maximum depth of Pacific Ocean?

Options :

1. ✖ 11, 911 m

2. ✖ 19, 011 m

3. ✖ 11, 011 m

4. ✔ 10, 911 m

Question Number : 60 Question Id : 54592721270 Question Type : MCQ Option Shuffling : Yes

Correct Marks : 1 Wrong Marks : 0.25

प्रशांत महासागर की अधिकतम गहराई कितनी है?

Options :

- 1. ✖ 11,911 मिनट
- 2. ✖ 19, 011 मिनट
- 3. ✖ 11,011 मिनट
- 4. ✔ 10,911 मिनट

General Awareness2

Group Number :	4
Group Id :	5459271054
Group Maximum Duration :	0
Group Minimum Duration :	0
Show Attended Group? :	No
Edit Attended Group? :	No
Break time:	0
Group Marks:	20
Is this Group for Examiner?:	No
Revisit allowed for group Instructions? :	Yes
Maximum Instruction Time:	0
Minimum Instruction Time:	0



General Awareness2

Section Id :	5459271054
Section Number :	1
Section type :	Online
Mandatory or Optional:	Mandatory
Number of Questions:	20
Number of Questions to be attempted:	20
Section Marks:	20

Sub-Section Number:	1
Sub-Section Id:	5459271264
Question Shuffling Allowed :	Yes

Question Number : 61 Question Id : 54592721271 Question Type : MCQ Option Shuffling : Yes
Correct Marks : 1 Wrong Marks : 0.25

Which country signed 6 pacts with India in 2019?

Options :

1. ✖ Malaysia
2. ✔ Korea
3. ✖ Myanmar
4. ✖ Nepal

Question Number : 61 Question Id : 54592721271 Question Type : MCQ Option Shuffling : Yes
Correct Marks : 1 Wrong Marks : 0.25

किस देश ने 2019 में भारत के साथ 6 संधि पर हस्ताक्षर किए?

Options :

1. ✖ मलेशिया
2. ✔ कोरिया
3. ✖ म्यांमार
4. ✖ नेपाल

Question Number : 62 Question Id : 54592721272 Question Type : MCQ Option Shuffling : Yes
Correct Marks : 1 Wrong Marks : 0.25

Where did Danish East India Company establish their settlements in 1620?

Options :

1. ✖ Serampur
2. ✔ Tranquebar
3. ✖ Masulipatam
4. ✖ Balasore

Question Number : 62 Question Id : 54592721272 Question Type : MCQ Option Shuffling : Yes
Correct Marks : 1 Wrong Marks : 0.25

1620 में डेनिश ईस्ट इंडिया कंपनी अपनी बस्तियाँ कहाँ स्थापित की?

Options :

1. ✖ सेरामपुर
2. ✔ ट्रेंक्यूबार

3. ✖ मसूलिपट्टम

4. ✖ बालासोर

Question Number : 63 Question Id : 54592721273 Question Type : MCQ Option Shuffling : Yes

Correct Marks : 1 Wrong Marks : 0.25

What was the staple food of people of Indus Valley Civilization?

Options :

1. ✖ Rice and Wheat

2. ✖ Wheat and Corn

3. ✔ Wheat and Barley

4. ✖ Barley and Rice

Question Number : 63 Question Id : 54592721273 Question Type : MCQ Option Shuffling : Yes

Correct Marks : 1 Wrong Marks : 0.25

सिंधु घाटी की सभ्यता के लोगों का मुख्य भोजन क्या था?

Options :

1. ✖ चावल और गेहूं

2. ✖ गेहूं और मकई

3. ✔ गेहूं और जौ

4. ✖ जौ और चावल

Question Number : 64 Question Id : 54592721274 Question Type : MCQ Option Shuffling : Yes

Correct Marks : 1 Wrong Marks : 0.25

After Samudragupta who among the following became the ruler of the Gupta Dynasty?

Options :

1. ✔ Chandragupta II

2. ✖ Vishnugupta

3. ✖ Mahendra

4. ✖ Chandrgupta I

Question Number : 64 Question Id : 54592721274 Question Type : MCQ Option Shuffling : Yes
Correct Marks : 1 Wrong Marks : 0.25

समुद्रगुप्त के बाद निम्नलिखित में से कौन गुप्त वंश का शासक बना?

Options :

1. ✓ चंद्रगुप्त II
2. ✗ विष्णुगुप्त
3. ✗ महेंद्र
4. ✗ चंद्रगुप्त I

Question Number : 65 Question Id : 54592721275 Question Type : MCQ Option Shuffling : Yes
Correct Marks : 1 Wrong Marks : 0.25

Who was the pioneer of Communism in India?

Options :

1. ✗ Nalin Gupta
2. ✗ S. A. Dange
3. ✓ M.N. Roy
4. ✗ Bipin Chandra Pal

Question Number : 65 Question Id : 54592721275 Question Type : MCQ Option Shuffling : Yes
Correct Marks : 1 Wrong Marks : 0.25

भारत में साम्यवाद के प्रणेता कौन थे?

Options :

1. ✗ नलिन गुप्ता
2. ✗ एस. ए. डांगे
3. ✓ एम. एन. रॉय
4. ✗ बिपिन चंद्र पाल

Question Number : 66 Question Id : 54592721276 Question Type : MCQ Option Shuffling : Yes
Correct Marks : 1 Wrong Marks : 0.25

Which act is associated with Press?

Options :

1. ✖ Regulating Act
2. ✖ Pitt's Act
3. ✔ Vernacular Act
4. ✖ Charter Act

Question Number : 66 Question Id : 54592721276 Question Type : MCQ Option Shuffling : Yes
Correct Marks : 1 Wrong Marks : 0.25

प्रेस का संबंध किस अधिनियम से है?

Options :

1. ✖ विनियमन अधिनियम
2. ✖ पिट का अधिनियम
3. ✔ वर्नाक्यूलर एक्ट
4. ✖ चार्टर एक्ट

Question Number : 67 Question Id : 54592721277 Question Type : MCQ Option Shuffling : Yes
Correct Marks : 1 Wrong Marks : 0.25

In which year it was announced that Delhi will be capital of British territories in India?

Options :

1. ✖ 1919
2. ✖ 1916
3. ✖ 1912
4. ✔ 1911

Question Number : 67 Question Id : 54592721277 Question Type : MCQ Option Shuffling : Yes
Correct Marks : 1 Wrong Marks : 0.25

किस वर्ष में यह घोषणा की गई कि ब्रिटिश शासित प्रदेशों की राजधानी दिल्ली होगी?

Options :

1. ✖ 1919

2. ✖ 1916

3. ✖ 1912

4. ✔ 1911

Question Number : 68 Question Id : 54592721278 Question Type : MCQ Option Shuffling : Yes
Correct Marks : 1 Wrong Marks : 0.25

Which essay of Annie Zaidi won the Nine Dots Prize 2019-20?

Options :

1. ✖ Known Turf

2. ✖ Other True Tales

3. ✔ Bread, Cement, Cactus

4. ✖ Bantering with Bandits

Question Number : 68 Question Id : 54592721278 Question Type : MCQ Option Shuffling : Yes
Correct Marks : 1 Wrong Marks : 0.25

एनी जैदी के किस निबंध ने नाइन डॉट्स पुरस्कार 2019-20 जीता?

Options :

1. ✖ नोन टर्फ

2. ✖ अदर टू टेल्स

3. ✔ ब्रेड, सीमेंट, कैक्टस

4. ✖ बंटरिंग विथ बैंडिट्स

Question Number : 69 Question Id : 54592721279 Question Type : MCQ Option Shuffling : Yes
Correct Marks : 1 Wrong Marks : 0.25

Who among the following is recipient of PM Yoga Award 2019?

Options :

1. ✔ Antonietta Rozzi

2. ✖ Paramhansa Yogananda

3. ✖ Ramdev

4. ✖ B.K.S. Iyengar

Question Number : 69 Question Id : 54592721279 Question Type : MCQ Option Shuffling : Yes
Correct Marks : 1 Wrong Marks : 0.25

निम्नलिखित में से किसे पीएम योग पुरस्कार 2019 मिला है?

Options :

1. ✔ एंटोनियेटा रोजी
2. ✖ परमहंस योगानंद
3. ✖ रामदेव
4. ✖ बी. के. एस. आयंगर

Question Number : 70 Question Id : 54592721280 Question Type : MCQ Option Shuffling : Yes
Correct Marks : 1 Wrong Marks : 0.25

Find the incorrect pair of book and author among the following.

Options :

1. ✖ Mansarovar – Munshi Premchand
2. ✔ We, the people - J.R.D. Tata
3. ✖ A suitable Boy – Vikram Seth
4. ✖ Forbidden Verses – Abu Nuwas

Question Number : 70 Question Id : 54592721280 Question Type : MCQ Option Shuffling : Yes
Correct Marks : 1 Wrong Marks : 0.25

निम्नलिखित पुस्तक और लेखक की जोड़ियों में से गलत जोड़ी चुने?

Options :

1. ✖ मानसरोवर - मुंशी प्रेमचंद
2. ✔ वी, द पीपल - जे आर डी . टाटा
3. ✖ अ सूटेबल बॉय - विक्रम सेठ
4. ✖ फोर्बिडन वर्सेज - अबू नुवास

Question Number : 71 Question Id : 54592721281 Question Type : MCQ Option Shuffling : Yes
Correct Marks : 1 Wrong Marks : 0.25

Which famous storybook is written by Lewis Carroll?

Options :

1. ✖ The magic of lost temple
2. ✖ The jungle Book
3. ✔ Alice's adventures in wonderlands
4. ✖ A wasted hour

Question Number : 71 Question Id : 54592721281 Question Type : MCQ Option Shuffling : Yes

Correct Marks : 1 Wrong Marks : 0.25

लुईस कैरोल ने किस प्रसिद्ध कहानी की पुस्तक लिखी है?

Options :

1. ✖ दी मैजिक ऑफ़ लॉस्ट टेम्पल
2. ✖ जंगल बुक
3. ✔ ऐलिस'स एडवेंचर इन वॉंडरलैंड्स
4. ✖ अ वेस्टेड ऑवर

Question Number : 72 Question Id : 54592721282 Question Type : MCQ Option Shuffling : Yes

Correct Marks : 1 Wrong Marks : 0.25

The father of Geometry is:

Options :

1. ✖ Pythagoras
2. ✖ Kepler
3. ✖ Aristotle
4. ✔ Euclid

Question Number : 72 Question Id : 54592721282 Question Type : MCQ Option Shuffling : Yes

Correct Marks : 1 Wrong Marks : 0.25

ज्यामिति का जनक है:

Options :

1. ✖ पाइथागोरस
2. ✖ केप्लर

- 3. ✖ अरस्तू
- 4. ✔ यूक्लिड

Question Number : 73 Question Id : 54592721283 Question Type : MCQ Option Shuffling : Yes
Correct Marks : 1 Wrong Marks : 0.25

Pankaj Advani is a famous Indian player in which of the game?

Options :

- 1. ✔ Billiard and Snooker
- 2. ✖ Hockey
- 3. ✖ Volley ball
- 4. ✖ Tennis

Question Number : 73 Question Id : 54592721283 Question Type : MCQ Option Shuffling : Yes
Correct Marks : 1 Wrong Marks : 0.25

पंकज आडवाणी किस खेल के प्रसिद्ध भारतीय खिलाड़ी हैं?

Options :

- 1. ✔ बिलियर्ड और स्नूकर
- 2. ✖ हॉकी
- 3. ✖ वॉली बॉल
- 4. ✖ टेनिस

Question Number : 74 Question Id : 54592721284 Question Type : MCQ Option Shuffling : Yes
Correct Marks : 1 Wrong Marks : 0.25

Which country's civil servants will be trained in India over next five years?

Options :

- 1. ✖ Indonesia
- 2. ✖ Nepal
- 3. ✔ Maldives
- 4. ✖ Myanmar

Question Number : 74 Question Id : 54592721284 Question Type : MCQ Option Shuffling : Yes
Correct Marks : 1 Wrong Marks : 0.25

अगले पांच वर्षों में किस देश के सिविल सेवकों को भारत में प्रशिक्षित किया जाएगा?

Options :

1. ✖ इंडोनेशिया
2. ✖ नेपाल
3. ✔ मालदीव
4. ✖ म्यांमार

Question Number : 75 Question Id : 54592721285 Question Type : MCQ Option Shuffling : Yes
Correct Marks : 1 Wrong Marks : 0.25

Who is the vice-chairperson of NITI Aayog?

Options :

1. ✖ V.K. Sherawat
2. ✖ Ramesh Chand
3. ✖ Amitabh Kant
4. ✔ Rajiv Kumar

Question Number : 75 Question Id : 54592721285 Question Type : MCQ Option Shuffling : Yes
Correct Marks : 1 Wrong Marks : 0.25

नीति आयोग के उपाध्यक्ष कौन हैं?

Options :

1. ✖ वी.के. शरावत
2. ✖ रमेश चंद
3. ✖ अमिताभ कांत
4. ✔ राजीव कुमार

Question Number : 76 Question Id : 54592721286 Question Type : MCQ Option Shuffling : Yes
Correct Marks : 1 Wrong Marks : 0.25

Which amendment of Indian constitution provides 10 percent reservation to economically weaker sections?

Options :

1. ✖ 122nd Amendment
2. ✔ 124th Amendment
3. ✖ 125th Amendment
4. ✖ 123rd Amendment

Question Number : 76 Question Id : 54592721286 Question Type : MCQ Option Shuffling : Yes

Correct Marks : 1 Wrong Marks : 0.25

भारतीय संविधान के किस संशोधन से आर्थिक रूप से कमजोर वर्गों को 10 प्रतिशत आरक्षण मिलता है?

Options :

1. ✖ 122 वां संशोधन
2. ✔ 124 वां संशोधन
3. ✖ 125 वां संशोधन
4. ✖ 123 वां संशोधन

Question Number : 77 Question Id : 54592721287 Question Type : MCQ Option Shuffling : Yes

Correct Marks : 1 Wrong Marks : 0.25

For how much maximum period an ordinary bill passed by the legislative assembly of a state can be delayed?

Options :

1. ✔ Four months
2. ✖ Five months
3. ✖ Three months
4. ✖ Six months

Question Number : 77 Question Id : 54592721287 Question Type : MCQ Option Shuffling : Yes

Correct Marks : 1 Wrong Marks : 0.25

किसी राज्य के विधान सभा द्वारा पारित एक साधारण विधेयक को अधिकतम कितनी अवधि के लिए विलंबित किया जा सकता है?

Options :

1. ✓ चार महीने
2. ✖ पांच महीने
3. ✖ तीन महीने
4. ✖ छह महीने

Question Number : 78 Question Id : 54592721288 Question Type : MCQ Option Shuffling : Yes
Correct Marks : 1 Wrong Marks : 0.25

Which of the following cups is related to Hockey?

Options :

1. ✖ Amrit Deewan Cup
2. ✖ Nijam Gold Cup
3. ✖ Rajkumar Cup
4. ✓ Murugappa Gold Cup

Question Number : 78 Question Id : 54592721288 Question Type : MCQ Option Shuffling : Yes
Correct Marks : 1 Wrong Marks : 0.25

निम्नलिखित में से कौन-सा कप हॉकी से संबंधित है?

Options :

1. ✖ अमृत दीवान कप
2. ✖ निजाम गोल्ड कप
3. ✖ राजकुमार कप
4. ✓ मुरुगप्पा गोल्ड कप

Question Number : 79 Question Id : 54592721289 Question Type : MCQ Option Shuffling : Yes
Correct Marks : 1 Wrong Marks : 0.25

Which sport uses the term silly point?

Options :

1. ✖ Hockey
2. ✔ Cricket
3. ✖ Golf
4. ✖ Billiards

Question Number : 79 Question Id : 54592721289 Question Type : MCQ Option Shuffling : Yes
Correct Marks : 1 Wrong Marks : 0.25

किस खेल में सिली पॉइंट शब्द का उपयोग होता है?

Options :

1. ✖ हॉकी
2. ✔ क्रिकेट
3. ✖ गोल्फ
4. ✖ बिलियर्ड

Question Number : 80 Question Id : 54592721290 Question Type : MCQ Option Shuffling : Yes
Correct Marks : 1 Wrong Marks : 0.25

In which city Women's FIH Series Finals Hockey Tournament 2019 was held?

Options :

1. ✔ Hiroshima
2. ✖ Banbridge
3. ✖ Valencia
4. ✖ Finland

Question Number : 80 Question Id : 54592721290 Question Type : MCQ Option Shuffling : Yes
Correct Marks : 1 Wrong Marks : 0.25

किस शहर में महिला इंटरनेशनल हॉकी फेडरेशन सीरीज़ फ़ाइनल हॉकी टूर्नामेंट 2019 आयोजित किया गया था?

Options :

1. ✔ हिरोशिमा

- 2. * बैनब्रिज
- 3. * वेलेँशिया
- 4. * फ़िनलैंड

Arithmetic Ability1

Group Number :	5
Group Id :	5459271055
Group Maximum Duration :	0
Group Minimum Duration :	0
Show Attended Group? :	No
Edit Attended Group? :	No
Break time:	0
Group Marks:	20
Is this Group for Examiner?:	No
Revisit allowed for group Instructions? :	Yes
Maximum Instruction Time:	0
Minimum Instruction Time:	0

Arithmetic Ability1

Section Id :	5459271055
Section Number :	1
Section type :	Online
Mandatory or Optional:	Mandatory
Number of Questions:	20
Number of Questions to be attempted:	20
Section Marks:	20

Sub-Section Number:	1
Sub-Section Id:	5459271265
Question Shuffling Allowed :	Yes

Question Number : 81 Question Id : 54592721291 Question Type : MCQ Option Shuffling : Yes
Correct Marks : 1 Wrong Marks : 0.25

DIRECTIONS: What value will come in place of question mark
(?)?

$(4 \times 4)^3 \div (512 \div 8)^4 \times (32 \times 8)^4 = (2 \times 2)^? + 4$

Options :

1. ✖ 8
2. ✖ 12
3. ✔ 6
4. ✖ 14

Question Number : 81 Question Id : 54592721291 Question Type : MCQ Option Shuffling : Yes
Correct Marks : 1 Wrong Marks : 0.25

निर्देश: प्रश्नवाचक चिन्ह (?) के स्थान पर कौन सा मान आयेगा?

$$(4 \times 4)^3 \div (512 \div 8)^4 \times (32 \times 8)^4 = (2 \times 2)^{?+4}$$

Options :

1. ✖ 8
2. ✖ 12
3. ✔ 6
4. ✖ 14

Question Number : 82 Question Id : 54592721292 Question Type : MCQ Option Shuffling : Yes
Correct Marks : 1 Wrong Marks : 0.25

What should come in place of the question mark (?) in the following question?

$$\{(12 \times 15) - 9.72\} \div 9 = ?$$

Options :

1. ✖ 18.32
2. ✔ 18.92
3. ✖ 18.07
4. ✖ 18.18

Question Number : 82 Question Id : 54592721292 Question Type : MCQ Option Shuffling : Yes
Correct Marks : 1 Wrong Marks : 0.25

निम्नलिखित प्रश्न में प्रश्नवाचक चिन्ह (?) के स्थान पर क्या आना चाहिए?

$$\{(12 \times 15) - 9.72\} \div 9 = ?$$

Options :

1. ✖ 18.32

2. ✔ 18.92

3. ✖ 18.07

4. ✖ 18.18

Question Number : 83 Question Id : 54592721293 Question Type : MCQ Option Shuffling : Yes

Correct Marks : 1 Wrong Marks : 0.25

DIRECTION: What should come in place of the question mark (?) in the following question?

$$2 \frac{1.5}{5} + 2 \frac{1}{6} - 1 \frac{3.5}{15} = \frac{(?)^{\frac{1}{3}}}{4} + 1 \frac{7}{30}$$

Options :

1. ✖ 2

2. ✖ 8

3. ✔ 512

4. ✖ 324

Question Number : 83 Question Id : 54592721293 Question Type : MCQ Option Shuffling : Yes

Correct Marks : 1 Wrong Marks : 0.25

निर्देश: निम्नलिखित प्रश्न में प्रश्नवाचक चिन्ह (?) के स्थान पर क्या आना चाहिए।

$$2 \frac{1.5}{5} + 2 \frac{1}{6} - 1 \frac{3.5}{15} = \frac{(?)^{\frac{1}{3}}}{4} + 1 \frac{7}{30}$$

Options :

1. ✖ 2

2. ✖ 8

3. ✔ 512

4. ✖ 324

Question Number : 84 Question Id : 54592721294 Question Type : MCQ Option Shuffling : Yes

Correct Marks : 1 Wrong Marks : 0.25

Find the largest of the following fractions.

$$\frac{17}{23}, \frac{27}{33}, \frac{37}{43}, \frac{47}{53}$$

Options :

1. ✖ $\frac{17}{23}$

2. ✖ $\frac{27}{33}$

3. ✖ $\frac{37}{43}$

4. ✔ $\frac{47}{53}$



Question Number : 84 Question Id : 54592721294 Question Type : MCQ Option Shuffling : Yes

Correct Marks : 1 Wrong Marks : 0.25

निम्नलिखित में से सबसे बड़ा भिन्न ज्ञात कीजिये?

$$\frac{17}{23}, \frac{27}{33}, \frac{37}{43}, \frac{47}{53}$$

Options :

1. ✖ $\frac{17}{23}$

2. ✖ $\frac{27}{33}$

3. ✖ $\frac{37}{43}$

4. ✔ $\frac{47}{53}$

Question Number : 85 Question Id : 54592721295 Question Type : MCQ Option Shuffling : Yes
Correct Marks : 1 Wrong Marks : 0.25

DIRECTION: What should come in place of the question mark (?) in the following question?

65% of $\sqrt{3136} \times 5 = ? + 154$

Options :

1. ✖ 56

2. ✔ 28

3. ✖ 35

4. ✖ 32

Question Number : 85 Question Id : 54592721295 Question Type : MCQ Option Shuffling : Yes
Correct Marks : 1 Wrong Marks : 0.25

निर्देश: निम्नलिखित प्रश्न में प्रश्नवाचक चिन्ह (?) के स्थान पर क्या आना चाहिए?

65% of $\sqrt{3136} \times 5 = ? + 154$

Options :

- 1. ✖ 56
- 2. ✔ 28
- 3. ✖ 35
- 4. ✖ 32

Question Number : 86 Question Id : 54592721296 Question Type : MCQ Option Shuffling : Yes

Correct Marks : 1 Wrong Marks : 0.25

DIRECTION: What should come in place of the question mark (?) in the following question?

$$98 \div 14 \times 49 - 294 = (?)$$

Options :

- 1. ✖ -14
- 2. ✖ $\sqrt{7}$
- 3. ✔ -7 or 7
- 4. ✖ 196

Question Number : 86 Question Id : 54592721296 Question Type : MCQ Option Shuffling : Yes

Correct Marks : 1 Wrong Marks : 0.25

निर्देश: निम्नलिखित प्रश्न में प्रश्नवाचक चिन्ह (?) के स्थान पर क्या आना चाहिए?

$$98 \div 14 \times 49 - 294 = (?)$$

Options :

- 1. ✖ -14
- 2. ✖ $\sqrt{7}$

3. ✓ -7 or 7

4. ✗ 196

Question Number : 87 Question Id : 54592721297 Question Type : MCQ Option Shuffling : Yes
Correct Marks : 1 Wrong Marks : 0.25

The LCM of $\frac{3}{7}$, $\frac{5}{9}$, $\frac{2}{5}$ and $\frac{8}{9}$ is:

Options :

1. ✗ 60

2. ✗ 90

3. ✓ 120

4. ✗ 150

Question Number : 87 Question Id : 54592721297 Question Type : MCQ Option Shuffling : Yes
Correct Marks : 1 Wrong Marks : 0.25

$\frac{3}{7}$, $\frac{5}{9}$, $\frac{2}{5}$ और $\frac{8}{9}$ का लघुतम समापवर्तक है:

Options :

1. ✗ 60

2. ✗ 90

3. ✓ 120

4. ✗ 150

Question Number : 88 Question Id : 54592721298 Question Type : MCQ Option Shuffling : Yes
Correct Marks : 1 Wrong Marks : 0.25

Find the greatest number that divides 427, 549 and 732 exactly.

Options :

1. ✓ 61

2. ✗ 37

3. ✗ 59

4. ✗ 63

Question Number : 88 Question Id : 54592721298 Question Type : MCQ Option Shuffling : Yes
Correct Marks : 1 Wrong Marks : 0.25

सबसे बड़ी संख्या ज्ञात करें जो 427, 549 और 732 को सटीक तरीके से विभाजित करे।

Options :

1. ✓ 61
2. ✗ 37
3. ✗ 59
4. ✗ 63

Question Number : 89 Question Id : 54592721299 Question Type : MCQ Option Shuffling : Yes
Correct Marks : 1 Wrong Marks : 0.25

778437 is divisible by which of the following?

Options :

1. ✗ 7
2. ✗ 12
3. ✗ 8
4. ✓ 9

Question Number : 89 Question Id : 54592721299 Question Type : MCQ Option Shuffling : Yes
Correct Marks : 1 Wrong Marks : 0.25

778437 निम्नलिखित में से किस से विभाज्य है?

Options :

1. ✗ 7
2. ✗ 12
3. ✗ 8
4. ✓ 9

Question Number : 90 Question Id : 54592721300 Question Type : MCQ Option Shuffling : Yes
Correct Marks : 1 Wrong Marks : 0.25

Which of the following numbers is divisible by both 9 and 11?

Options :

1. ✓ 22374
2. ✗ 21307
3. ✗ 23456
4. ✗ 17577

Question Number : 90 Question Id : 54592721300 Question Type : MCQ Option Shuffling : Yes

Correct Marks : 1 Wrong Marks : 0.25

निम्नलिखित में से कौन सी संख्या 9 और 11 दोनों से विभाज्य है?

Options :

1. ✓ 22374
2. ✗ 21307
3. ✗ 23456
4. ✗ 17577

Question Number : 91 Question Id : 54592721301 Question Type : MCQ Option Shuffling : Yes

Correct Marks : 1 Wrong Marks : 0.25

The average mark in Hindi of a class of certain number of students is 70. If the marks of three students were misread as 65, 54 and 76 instead of 56, 45 and 67 respectively, then find the number of students of the class if the correct average of marks is 69.1.

Options :

1. ✗ 36
2. ✓ 30
3. ✗ 45
4. ✗ 54

Question Number : 91 Question Id : 54592721301 Question Type : MCQ Option Shuffling : Yes

Correct Marks : 1 Wrong Marks : 0.25

कुछ निश्चित छात्रों की एक कक्षा का हिंदी में औसत अंक 70 है। यदि तीन छात्रों के अंक क्रमशः 56, 45 और 67 के बजाय 65, 54 और 76 के रूप में पढ़े गए, तो कक्षा के छात्रों की संख्या ज्ञात करें यदि अंकों का सही औसत 69.1 है।

Options :

- 1. ✖ 36
- 2. ✔ 30
- 3. ✖ 45
- 4. ✖ 54

Question Number : 92 Question Id : 54592721302 Question Type : MCQ Option Shuffling : Yes
Correct Marks : 1 Wrong Marks : 0.25

The average of runs scored a batsman for the first 12 matches is 32.5. In the 13th match he makes century and in the 14th match he makes half century. What is the average for all 14 matches?

Options :

- 1. ✖ 36.63
- 2. ✔ 38.57
- 3. ✖ 40.5
- 4. ✖ 78.6

Question Number : 92 Question Id : 54592721302 Question Type : MCQ Option Shuffling : Yes
Correct Marks : 1 Wrong Marks : 0.25

पहले 12 मैचों के लिए एक बल्लेबाज का औसत के रनों का औसत 32.5 है। 13वें मैच में वह शतक बनाता हैं और 14वें मैच में वह अर्धशतक बनाता हैं। सभी 14 मैचों के लिए औसत रन क्या है?

Options :

- 1. ✖ 36.63

2. ✓ 38.57

3. ✗ 40.5

4. ✗ 78.6

Question Number : 93 Question Id : 54592721303 Question Type : MCQ Option Shuffling : Yes
Correct Marks : 1 Wrong Marks : 0.25

A shopkeeper marked the price of each of 50 shirts at 60 percent above the cost price. He sold 20 shirts at 20 percent discount and remaining shirts at 30 percent discount. The total profit of shopkeeper is Rs.3220. What is the cost price of each shirt?

Options :

1. ✗ Rs.240

2. ✗ Rs.480

3. ✓ Rs.350

4. ✗ Rs.320

Question Number : 93 Question Id : 54592721303 Question Type : MCQ Option Shuffling : Yes
Correct Marks : 1 Wrong Marks : 0.25

एक दुकानदार ने क्रय मूल्य से 60 प्रतिशत ऊपर प्रत्येक 50 शर्ट की कीमत को अंकित किया। उसने 20 शर्ट 20 प्रतिशत छूट पर और शेष शर्ट 30 प्रतिशत छूट पर बेचीं। दुकानदार का कुल लाभ 3220 रु. है। प्रत्येक शर्ट की क्रय मूल्य क्या है?

Options :

1. ✗ रु. 240

2. ✗ रु.480

3. ✓ रु.350

4. ✗ रु.320

Question Number : 94 Question Id : 54592721304 Question Type : MCQ Option Shuffling : Yes
Correct Marks : 1 Wrong Marks : 0.25

In a group, there are 65 percent men. 35 percent of the total members are literate, of which 45 percent are women. By what percentage is the number of illiterate women more/less than that of illiterate men?

Options :

1. ✖ 22.22 percent more
2. ✖ 18.86 percent less
3. ✖ 45.34 percent more
4. ✔ 57.92 percent less

Question Number : 94 Question Id : 54592721304 Question Type : MCQ Option Shuffling : Yes
Correct Marks : 1 Wrong Marks : 0.25

एक समूह में 65 प्रतिशत पुरुष हैं। कुल सदस्यों में से 35 प्रतिशत साक्षर हैं, जिनमें से 45 प्रतिशत महिलाएँ हैं। अशिक्षित महिलाओं की संख्या अशिक्षित पुरुषों की तुलना में कितने प्रतिशत कम/ अधिक है?

Options :

1. ✖ 22.22 प्रतिशत अधिक
2. ✖ 18.86 प्रतिशत कम
3. ✖ 45.34 प्रतिशत अधिक
4. ✔ 57.92 प्रतिशत कम

Question Number : 95 Question Id : 54592721305 Question Type : MCQ Option Shuffling : Yes
Correct Marks : 1 Wrong Marks : 0.25

An increase of 20 percent in the price of pens enables a man to buy four less pens for Rs.72, thus he gets N pens. The price of each pen after increase will be P. What is the value of $N + P$?

Options :

1. ✖ 20.4

2. ✖ 25.8

3. ✔ 23.6

4. ✖ 28.2

Question Number : 95 Question Id : 54592721305 Question Type : MCQ Option Shuffling : Yes

Correct Marks : 1 Wrong Marks : 0.25

पेन की कीमत में 20 प्रतिशत की वृद्धि होने पर एक आदमी 72 रु. में चार पेन कम खरीदता है, इस प्रकार वह N पेन खरीदता है। वृद्धि के बाद प्रत्येक पेन की कीमत P होगी। $N + P$ का मान क्या है?

Options :

1. ✖ 20.4

2. ✖ 25.8

3. ✔ 23.6

4. ✖ 28.2

Question Number : 96 Question Id : 54592721306 Question Type : MCQ Option Shuffling : Yes

Correct Marks : 1 Wrong Marks : 0.25

In a examination, A scored 20 marks more than B. C scored 35 marks less than B. D scored 14 marks more than C. E scored 85 marks less than the maximum marks of the test. D scored 84 marks. What percentage of marks did E score, if he got 40 marks less than A.

Options :

1. ✖ 40 percent

2. ✔ 50 percent

3. ✖ 65 percent

4. ✖ 35 percent

Question Number : 96 Question Id : 54592721306 Question Type : MCQ Option Shuffling : Yes

Correct Marks : 1 Wrong Marks : 0.25

एक परीक्षा में, A ने B से 20 अधिक अंक प्राप्त किए। C ने B से 35 अंक कम प्राप्त किए। D ने C से 14 अंक अधिक प्राप्त किए। E ने परीक्षा के अधिकतम अंकों की तुलना में 85 अंक कम प्राप्त किए। D ने 84 अंक हासिल किए। यदि E ने A से 40 अंक कम प्राप्त किए, E ने कितने प्रतिशत अंक प्राप्त किए?

Options :

1. ✖ 40 प्रतिशत
2. ✔ 50 प्रतिशत
3. ✖ 65 प्रतिशत
4. ✖ 35 प्रतिशत

Question Number : 97 Question Id : 54592721307 Question Type : MCQ Option Shuffling : Yes

Correct Marks : 1 Wrong Marks : 0.25

Mukesh buys an article marked at Rs.5000 and gets three successive discounts of 10 percent, 20 percent and 25 percent respectively. He spends 20 percent of the cost price on transportation. At what price should he sell the article to earn a profit of 25 percent?

Options :

1. ✔ Rs.4050
2. ✖ Rs.3240
3. ✖ Rs.3660
4. ✖ Rs.4200

Question Number : 97 Question Id : 54592721307 Question Type : MCQ Option Shuffling : Yes

Correct Marks : 1 Wrong Marks : 0.25

मुकेश ने 5000 रु. अंकित मूल्य की एक वस्तु क्रमशः 10 प्रतिशत, 20 प्रतिशत और 25 प्रतिशत की तीन क्रमिक छूट पर खरीदी। वह क्रय मूल्य का 20 प्रतिशत परिवहन पर खर्च करता है। 25 प्रतिशत का लाभ कमाने के लिए उसे किस मूल्य पर वस्तु को बेचना चाहिए?

Options :

1. ✓ रु.4050
2. ✗ रु.3240
3. ✗ रु. 3660
4. ✗ रु.4200

Question Number : 98 Question Id : 54592721308 Question Type : MCQ Option Shuffling : Yes
Correct Marks : 1 Wrong Marks : 0.25

The value of a car depreciates by 15 percent every year. If its present value is Rs.5,12,000. At what price should it be sold after two years to gain 40 percent profit?

Options :

1. ✓ Rs.517888
2. ✗ Rs.418260
3. ✗ Rs.498528
4. ✗ Rs.520188

Question Number : 98 Question Id : 54592721308 Question Type : MCQ Option Shuffling : Yes
Correct Marks : 1 Wrong Marks : 0.25

एक कार का मूल्य हर वर्ष 15 प्रतिशत कम हो जाता है। यदि इसका वर्तमान मूल्य रु.5,12,000 है। 40 प्रतिशत लाभ प्राप्त करने के लिए दो वर्ष के बाद इसे किस मूल्य पर बेचा जाना चाहिए?

Options :

1. ✓ रु 517888
2. ✗ रु.418260

3. ✖ ₹.498528

4. ✖ ₹.520188

Question Number : 99 Question Id : 54592721309 Question Type : MCQ Option Shuffling : Yes
Correct Marks : 1 Wrong Marks : 0.25

An article was sold at 20 percent loss. If it was purchased at 10 percent lower price and sold at Rs.114 more, the profit would have been 10 percent. What is the cost price of the article ?

Options :

1. ✖ Rs.540

2. ✖ Rs.650

3. ✔ Rs.600

4. ✖ Rs.700

Question Number : 99 Question Id : 54592721309 Question Type : MCQ Option Shuffling : Yes
Correct Marks : 1 Wrong Marks : 0.25

एक उत्पाद 20 प्रतिशत नुकसान पर बेचा गया था। यदि यह 10 प्रतिशत कम कीमत पर खरीदा जाता है और 114 रुपये अधिक पर बेचा जाता है, तो लाभ 10 प्रतिशत होगा। उत्पाद की लागत मूल्य क्या है?

Options :

1. ✖ ₹.540

2. ✖ ₹.650

3. ✔ ₹.600

4. ✖ ₹.700

Question Number : 100 Question Id : 54592721310 Question Type : MCQ Option Shuffling : Yes
Correct Marks : 1 Wrong Marks : 0.25

The mean proportion of two numbers is 40 and third proportion of the same numbers is 320. Find the sum of the numbers.

Options :

1. ✓ 100
2. ✗ 70
3. ✗ 80
4. ✗ 88

Question Number : 100 Question Id : 54592721310 Question Type : MCQ Option Shuffling : Yes
Correct Marks : 1 Wrong Marks : 0.25

दो संख्याओं का मध्यानुपात 40 है और उसी संख्याओं का तृतीयानुपात 320 है। संख्याओं का योग ज्ञात कीजिए।

Options :

1. ✓ 100
2. ✗ 70
3. ✗ 80
4. ✗ 88



Arithmetic Ability2

Group Number :	6
Group Id :	5459271056
Group Maximum Duration :	0
Group Minimum Duration :	0
Show Attended Group? :	No
Edit Attended Group? :	No
Break time:	0
Group Marks:	20
Is this Group for Examiner?:	No
Revisit allowed for group Instructions? :	Yes
Maximum Instruction Time:	0
Minimum Instruction Time:	0

Arithmetic Ability2

Section Id :	5459271056
Section Number :	1
Section type :	Online
Mandatory or Optional:	Mandatory
Number of Questions:	20
Number of Questions to be attempted:	20
Section Marks:	20

Sub-Section Number:	1
Sub-Section Id:	5459271266
Question Shuffling Allowed :	Yes

Question Number : 101 Question Id : 54592721311 Question Type : MCQ Option Shuffling : Yes
Correct Marks : 1 Wrong Marks : 0.25

A person divides a certain amount of money between his sons Ram and Shyam such that Ram gets $(1/7)$ th of the money. Shyam gets $(1/3)$ rd of the remaining amount. Shyam deposits the remaining amount in three bank A, B and C in the ratio 2 : 1 : 5. If the amount deposit in bank C is Rs.11750, then what is the share of Shyam?

Options :

- 1. ✖ Rs.8500
- 2. ✔ Rs.9400
- 3. ✖ Rs.10500
- 4. ✖ Rs.12500

Question Number : 101 Question Id : 54592721311 Question Type : MCQ Option Shuffling : Yes
Correct Marks : 1 Wrong Marks : 0.25

एक व्यक्ति अपने बेटों राम और श्याम के बीच कुछ राशि इस तरह बांटता है कि राम को $(1/7)$ वां भाग धन मिलता है। श्याम को शेष राशि का $(1/3)$ वां भाग मिलता है। वह शेष राशि को श्याम 2: 1: 5 के अनुपात में तीन बैंक A, B और C में जमा करता है। यदि बैंक C में जमा राशि 11750 रु है, तो श्याम का हिस्सा क्या है?

Options :

1. ✖ ₹.8500
2. ✔ ₹.9400
3. ✖ ₹.10500
4. ✖ ₹.12500

Question Number : 102 Question Id : 54592721312 Question Type : MCQ Option Shuffling : Yes
Correct Marks : 1 Wrong Marks : 0.25

B is 13 years older than A and 7 years younger than C. Five year hence, the ratio of the ages of A and C is 5 : 9. What will be the age of B after 10 years?

Options :

1. ✖ 38 yr
2. ✖ 45 yr
3. ✔ 43 yr
4. ✖ 40 yr

Question Number : 102 Question Id : 54592721312 Question Type : MCQ Option Shuffling : Yes
Correct Marks : 1 Wrong Marks : 0.25

B, A से 13 वर्ष बड़ा है और C से 7 वर्ष छोटा है। पाँच वर्ष बाद A और C की आयु का अनुपात 5: 9 है। 10 वर्ष बाद B की आयु क्या होगी?

Options :

1. ✖ 38 वर्ष
2. ✖ 45 वर्ष
3. ✔ 43 वर्ष
4. ✖ 40 वर्ष

Question Number : 103 Question Id : 54592721313 Question Type : MCQ Option Shuffling : Yes
Correct Marks : 1 Wrong Marks : 0.25

The compound interest on a sum for 2 years is Rs. 624 and the simple interest on the same sum for 2 yrs is Rs. 600, the rate of interest being on the same sum in both the cases. The difference between the compound interest and simple interest for 3 years will be?

Options :

1. ✓ Rs 73.92
2. ✗ Rs 49.92
3. ✗ Rs 62.24
4. ✗ Rs 54.76

Question Number : 103 Question Id : 54592721313 Question Type : MCQ Option Shuffling : Yes

Correct Marks : 1 Wrong Marks : 0.25

एक धनराशि पर 2 वर्ष के लिए चक्रवृद्धि ब्याज 624 रु. है और समान/उसी धनराशि पर 2 वर्ष के लिए साधारण ब्याज 600 रु. है, दोनों मामलों में ब्याज की दर समान है। 3 वर्ष उसी राशि के लिए चक्रवृद्धि ब्याज और साधारण ब्याज के बीच का अंतर क्या होगा?

Options :

1. ✓ 73.92 रूपयें
2. ✗ 49.92 रूपयें
3. ✗ 62.24 रूपयें
4. ✗ 54.76 रूपयें

Question Number : 104 Question Id : 54592721314 Question Type : MCQ Option Shuffling : Yes

Correct Marks : 1 Wrong Marks : 0.25

The value of a machine depreciates at a certain rate for every year. For the first year, it depreciates by 10 percent and for the second year, by 25 percent and for the third year by 20 percent. If the present value of the machine is Rs.5400, then find the value of the machine three years ago.

Options :

1. ✖ Rs.20000
2. ✖ Rs.28000
3. ✖ Rs.19800
4. ✔ Rs.10000

Question Number : 104 Question Id : 54592721314 Question Type : MCQ Option Shuffling : Yes

Correct Marks : 1 Wrong Marks : 0.25

एक मशीन का मूल्य हर साल के लिए एक निश्चित दर से कम हो जाता है। पहले वर्ष के लिए, यह 10 प्रतिशत और दूसरे वर्ष के लिए 25 प्रतिशत और तीसरे वर्ष के लिए 20 प्रतिशत से कम हो जाता है। यदि मशीन का वर्तमान मूल्य रु.5400 है, तो तीन साल पहले मशीन का मूल्य ज्ञात करें।

Options :

1. ✖ रु.20000
2. ✖ रु.28000
3. ✖ रु.19800
4. ✔ रु.10000

Question Number : 105 Question Id : 54592721315 Question Type : MCQ Option Shuffling : Yes

Correct Marks : 1 Wrong Marks : 0.25

A certain sum was lent on simple interest at $14\frac{2}{7}\%$ p.a. for three years and six months. The whole amount was again lent at 20% p.a. on compound interest (compounded annually) for three years. if the amount received at the end of six years and six months was Rs.20736, find the initial sum lent.

Options :

1. ✖ Rs.10000
2. ✖ Rs.9000
3. ✖ Rs.11500
4. ✔ Rs.8000

Question Number : 105 Question Id : 54592721315 Question Type : MCQ Option Shuffling : Yes
Correct Marks : 1 Wrong Marks : 0.25

एक निश्चित राशि साधारण ब्याज पर $14\frac{2}{7}\%$ प्रति वर्ष तीन साल और छह महीने के लिए उधार दी। पूरी राशि फिर से 20% प्रति वर्ष चक्रवृद्धि ब्याज (वार्षिक गणना) पर तीन साल के लिए उधार दी गई थी। यदि छह साल और छह महीने के अंत में प्राप्त राशि रु.20736 थी, तो शुरुआती राशि का पता लगाएं।

Options :

1. ✖ रु.10000
2. ✖ रु.9000
3. ✖ रु.11500
4. ✔ रु.8000

Question Number : 106 Question Id : 54592721316 Question Type : MCQ Option Shuffling : Yes
Correct Marks : 1 Wrong Marks : 0.25

A and B begin to move towards each other, the distance between them is 20 km. A walks at 3 km per hour, and B walks at 1 km per hour. After how many hours will they meet?

Options :

1. ✔ 5 hour
2. ✖ 6 hour
3. ✖ 7 hour
4. ✖ 9 hour

Question Number : 106 Question Id : 54592721316 Question Type : MCQ Option Shuffling : Yes
Correct Marks : 1 Wrong Marks : 0.25

A और B एक दूसरे की तरफ चलना प्रारंभ करते हैं जिनके बीच की दूरी 20 किमी हैं। A, 3 किमी प्रति घंटा की गति से और B, 1 किमी प्रति घंटा की गति से चाल करता है। वे कितने घंटे बाद मिलेंगे?

Options :

1. ✔ 5 घंटे
2. ✖ 6 घंटे

3. ✖ 7 घंटे

4. ✖ 9 घंटे

Question Number : 107 Question Id : 54592721317 Question Type : MCQ Option Shuffling : Yes

Correct Marks : 1 Wrong Marks : 0.25

A train covers a distance in 70 minutes, if it runs at a speed of 72 km/hr on an average. The speed at which the train must run to reduce the time of journey to 45 minutes, will be:

Options :

1. ✖ 115 km/hr

2. ✖ 125 km/hr

3. ✖ 105 km/hr

4. ✔ 112 km/hr

Question Number : 107 Question Id : 54592721317 Question Type : MCQ Option Shuffling : Yes

Correct Marks : 1 Wrong Marks : 0.25

एक रेलगाड़ी एक निश्चित दूरी 70 मिनट में तय करती है, यदि इसकी औसत चाल 72 किमी/घंटा है। रेलगाड़ी किस चाल से चले कि यात्रा का समय 45 मिनट लगे?

Options :

1. ✖ 115 किमी/घंटा

2. ✖ 125 किमी/घंटा

3. ✖ 105 किमी/घंटा

4. ✔ 112 किमी/घंटा

Question Number : 108 Question Id : 54592721318 Question Type : MCQ Option Shuffling : Yes

Correct Marks : 1 Wrong Marks : 0.25

A man travels the first part of his journey at 20 km/h and the next at 70 km/h, covering the entire journey at an average speed of 50 km/h. If he covered 42 km at the rate of 70 km/h, then find the distance covered at 20 km/h?

Options :

1. ✓ 8 km
2. ✗ 4 km
3. ✗ 6 km
4. ✗ 3 km

Question Number : 108 Question Id : 54592721318 Question Type : MCQ Option Shuffling : Yes
Correct Marks : 1 Wrong Marks : 0.25

एक व्यक्ति ने अपनी यात्रा का पहला भाग 20 किमी/घंटे की गति से तथा अगला भाग 70 किमी/घंटे की गति से तय किया। उसने पूरी यात्रा 50 किमी/घंटे की औसत गति से तय की। यदि वह 70 किमी/घंटा की दर से 42 किमी की दूरी तय करता है, तो 20 किमी/घंटा की गति से तय दूरी ज्ञात कीजिए।

Options :

1. ✓ 8 किमी
2. ✗ 4 किमी
3. ✗ 6 किमी
4. ✗ 3 किमी

Question Number : 109 Question Id : 54592721319 Question Type : MCQ Option Shuffling : Yes
Correct Marks : 1 Wrong Marks : 0.25

Sachin and Nitesh can do a piece of work in 20 days and 30 days respectively. They began to work together but Sachin leaves after 'x' days and Nitesh finished the rest of the work in (x + 10) days. After how many days did Sachin leave?

Note: For this question, discrepancy is found in question/answer. So, this question is ignored for all candidates.

Options :

1. 18
2. 11
3. 6
4. 12

Question Number : 109 Question Id : 54592721319 Question Type : MCQ Option Shuffling : Yes

Correct Marks : 1 Wrong Marks : 0.25

सचिन और नितेश किसी कार्य को क्रमशः 20 दिन और 30 दिन में कर सकते हैं। उन लोगों ने एक साथ कार्य करना प्रारम्भ किया लेकिन सचिन ने 'x' दिन बाद कार्य करना छोड़ दिया और नितेश ने बचे हुये कार्य को $(x + 10)$ दिनों में समाप्त किया। सचिन कितने दिन बाद कार्य छोड़कर गया था?

Note: For this question, discrepancy is found in question/answer. So, this question is ignored for all candidates.

Options :

1. 18
2. 11
3. 6
4. 12

Question Number : 110 Question Id : 54592721320 Question Type : MCQ Option Shuffling : Yes

Correct Marks : 1 Wrong Marks : 0.25

15 men or 18 women can complete a piece of work in 45 days. If 5 men and 6 women work together then the work will be completed in:

Options :

1. * 48 days

2. ✖ $53\frac{1}{2}$ days

3. ✔ $67\frac{1}{2}$ days

4. ✖ 75 days

Question Number : 110 Question Id : 54592721320 Question Type : MCQ Option Shuffling : Yes

Correct Marks : 1 Wrong Marks : 0.25

15 पुरुष या 18 महिलाएं किसी कार्य को 45 दिनों में करती हैं। यदि 5 पुरुष और 6 महिलाएं एक साथ कार्य करें, तो कार्य कितने दिनों में पूरा होगा?

Options :

1. ✖ 48 दिन

2. ✖ $53\frac{1}{2}$ दिन

3. ✔ $67\frac{1}{2}$ दिन

4. ✖ 75 दिन

Question Number : 111 Question Id : 54592721321 Question Type : MCQ Option Shuffling : Yes

Correct Marks : 1 Wrong Marks : 0.25

A can do a piece of work in 15 days, B in 12 days, and A, B and C together in 5 days, In what time could C do it alone?

Options :

1. ✔ 20 days

2. ✖ 8 days

3. ✖ 15 days

4. ✖ 12 days

Question Number : 111 Question Id : 54592721321 Question Type : MCQ Option Shuffling : Yes
Correct Marks : 1 Wrong Marks : 0.25

A किसी काम को 15 दिन में , B 12दिन में तथा A,B और C एक साथ मिलकर उसी काम को 5 दिन में पूरा करते हैं | C अकेले उसे कितने दिनों में पूरा कर सकता है?

Options :

- 1. ✓ 20 दिन
- 2. ✗ 8 दिन
- 3. ✗ 15 दिन
- 4. ✗ 12 दिन

Question Number : 112 Question Id : 54592721322 Question Type : MCQ Option Shuffling : Yes
Correct Marks : 1 Wrong Marks : 0.25

The area of square is equal to four times the area of a rectangle of length 117 cm and breadth 13 cm. What is the perimeter of the square?

Options :

- 1. ✗ 310 cm
- 2. ✗ 308 cm
- 3. ✓ 312 cm
- 4. ✗ 300 cm

Question Number : 112 Question Id : 54592721322 Question Type : MCQ Option Shuffling : Yes
Correct Marks : 1 Wrong Marks : 0.25

एक वर्ग का क्षेत्रफल, एक आयत के क्षेत्रफल का चार गुना है जिसकी लम्बाई 117 सेमी तथा चौड़ाई 13 सेमी है। वर्ग का वर्ग की परिधि क्या होगी?

Options :

- 1. ✗ 310 सेमी

2. ✖ 308 सेमी

3. ✔ 312 सेमी

4. ✖ 300 सेमी

Question Number : 113 Question Id : 54592721323 Question Type : MCQ Option Shuffling : Yes
Correct Marks : 1 Wrong Marks : 0.25

The area of a square is 49 sq. cm whose side is one fourth to the radius of a circle. The ratio of Perimeter of square to the circumference of the circle is:

Options :

1. ✖ 7: 23

2. ✖ 28:33

3. ✔ 7: 44

4. ✖ 23:35

Question Number : 113 Question Id : 54592721323 Question Type : MCQ Option Shuffling : Yes
Correct Marks : 1 Wrong Marks : 0.25

एक वर्ग का क्षेत्रफल 49 वर्ग सेमी है जिसकी भुजा एक वृत्त की त्रिज्या से एक चौथाई है। वर्ग की परिधि और वृत्त की परिधि का अनुपात है:

Options :

1. ✖ 7: 23

2. ✖ 28:33

3. ✔ 7: 44

4. ✖ 23:35

Question Number : 114 Question Id : 54592721324 Question Type : MCQ Option Shuffling : Yes
Correct Marks : 1 Wrong Marks : 0.25

What is the area of a circle whose circumference is 88 cm?

Options :

1. ✖ 732 sq.cm
2. ✖ 430 sq.cm
3. ✔ 616 sq.cm
4. ✖ 928 sq.cm

Question Number : 114 Question Id : 54592721324 Question Type : MCQ Option Shuffling : Yes
Correct Marks : 1 Wrong Marks : 0.25

उस वृत्त का क्षेत्रफल ज्ञात कीजिए जिसकी परिधि 88 सेमी. है?

Options :

1. ✖ 732 वर्ग सेमी.
2. ✖ 430 वर्ग सेमी.
3. ✔ 616 वर्ग सेमी.
4. ✖ 928 वर्ग सेमी.

Question Number : 115 Question Id : 54592721325 Question Type : MCQ Option Shuffling : Yes
Correct Marks : 1 Wrong Marks : 0.25

DIRECTIONS: Study the following table and answer the questions that follow:

Price of Milk in Selected Countries (US Dollars)

Country	Price of 100 litres of milk
European community	37.5
USA	22.8
JAPAN	85.5
Australia	22.5
New Zealand	20.2
India	18.8

Find the difference between the prices of 500 litres of milk in Australia and in Japan(in US Dollars.)

Options :

1. ✖ 305

2. ✓ 315

3. ✗ 325

4. ✗ 335

Question Number : 115 Question Id : 54592721325 Question Type : MCQ Option Shuffling : Yes
Correct Marks : 1 Wrong Marks : 0.25

निर्देश: निम्न तालिका का अध्ययन करें और निम्नलिखित प्रश्नों के उत्तर दें:

चुनिंदा देशों (अमेरिकी डॉलर) में दूध की कीमत

देश	100 लीटर दूध की कीमत
यूरोपीय समुदाय	37.5
संयुक्त राज्य अमेरिका	22.8
जापान	85.5
ऑस्ट्रेलिया	22.5
न्यूजीलैंड	20.2
भारत	18.8

ऑस्ट्रेलिया और जापान में 500 लीटर दूध की कीमतों के बीच अंतर ज्ञात कीजिए।(अमेरिकी डॉलर में)

Options :

1. ✗ 305

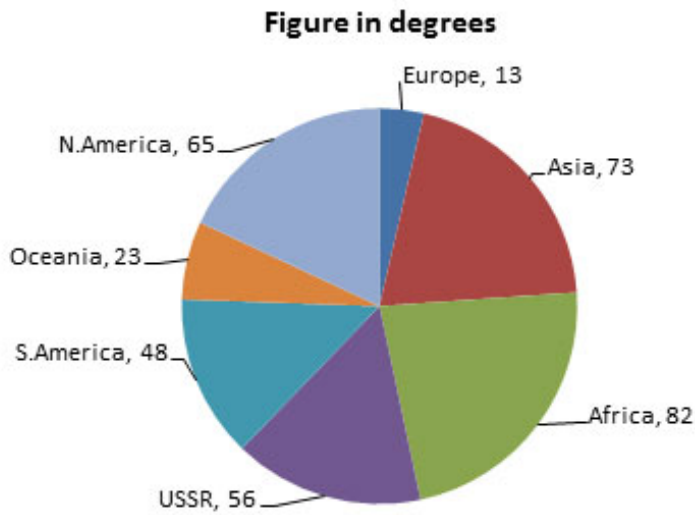
2. ✓ 315

3. ✗ 325

4. ✗ 335

Question Number : 116 Question Id : 54592721326 Question Type : MCQ Option Shuffling : Yes
Correct Marks : 1 Wrong Marks : 0.25

DIRECTIONS: The following pie-chart gives the break-up (in degrees) of land with various continents. Answer the questions on the basis of the pie-chart given.



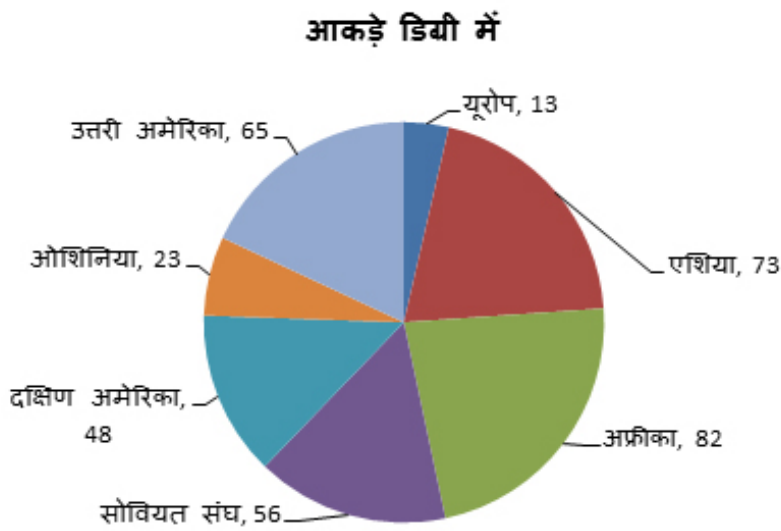
If the total area is 500 million square miles what will be the ratio between the area under Europe and North America?

Options :

1. ✖ 5 : 1
2. ✔ 1 : 5
3. ✖ 181 : 903
4. ✖ 903 : 181

Question Number : 116 Question Id : 54592721326 Question Type : MCQ Option Shuffling : Yes
Correct Marks : 1 Wrong Marks : 0.25

निर्देश: निम्नलिखित पाई-चार्ट विभिन्न महाद्वीपों के भूमि वितरण को (डिग्री में) दर्शाता है। दिए गए पाई-चार्ट के आधार पर प्रश्न के उत्तर दें।



यदि कुल क्षेत्रफल 500 मिलियन वर्ग मील है, तो यूरोप और उत्तरी अमेरिका के क्षेत्रफल के बीच का अनुपात क्या होगा?

Options :

1. ✖ 5 : 1
2. ✔ 1 : 5
3. ✖ 181 : 903
4. ✖ 903 : 181

Question Number : 117 Question Id : 54592721327 Question Type : MCQ Option Shuffling : Yes
Correct Marks : 1 Wrong Marks : 0.25

DIRECTIONS: Following table shows number of T-20 matches played, runs scored, 50s and 100s by 4 Indian batsmen in a year.

Player	Matches played	Runs scored	50s	100s
Virat	16	900	4	3
Rohit	20	840	5	1
Shikhar	25	1050	6	2
Suresh	12	450	4	0

What is the ratio of the average number of runs scored per match by Shikhar to the average number of runs scored per match by Rohit?

Options :

- 1. ✖ 3 : 4
- 2. ✖ 11 : 13
- 3. ✖ 1 : 2
- 4. ✔ 1 : 1

Question Number : 117 Question Id : 54592721327 Question Type : MCQ Option Shuffling : Yes
Correct Marks : 1 Wrong Marks : 0.25

निर्देश: निम्नलिखित तालिका एक वर्ष में 4 भारतीय बल्लेबाजों द्वारा खेले गए टी-20 मैच, बनाए गए रन, 50/अर्धशतक और 100/शतक की संख्या दर्शाती है।

खिलाड़ी	खेले गए मैच	बनाए गए रन	50/अर्धशतक	100/शतक
विराट	16	900	4	3
रोहित	20	840	5	1
शिखर	25	1050	6	2
सुरेश	12	450	4	0

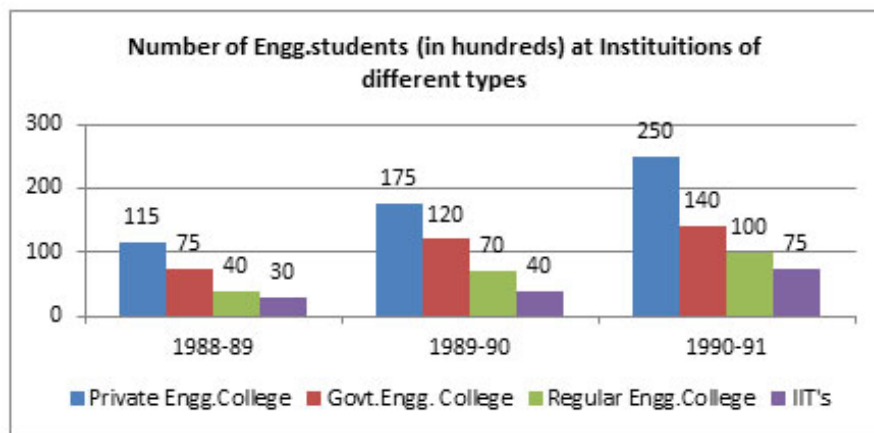
शिखर द्वारा प्रति मैच बनाए गए औसत रनों तथा रोहित द्वारा प्रति मैच बनाए गए औसत रनों की संख्या का अनुपात कितना है?

Options :

- ✖ 3 : 4
- ✖ 11 : 13
- ✖ 1 : 2
- ✓ 1 : 1

Question Number : 118 Question Id : 54592721328 Question Type : MCQ Option Shuffling : Yes
Correct Marks : 1 Wrong Marks : 0.25

DIRECTION: The following bar graph shows the number of engineering students at different institutes for the 3 academic years. Study the graph and answer the questions that follow.



In 1990-91, what percent of Engineering Students were studying at IIT's?

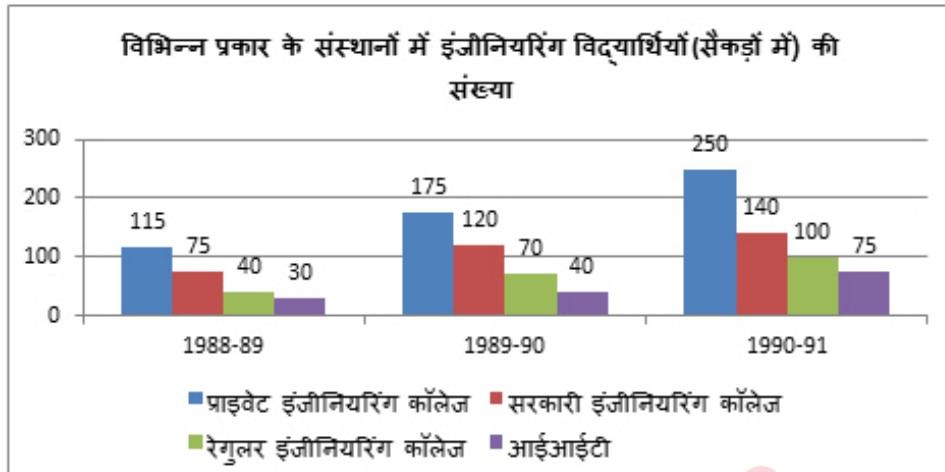
Options :

1. ✖ 16
2. ✖ 15
3. ✔ 13
4. ✖ 12

Question Number : 118 Question Id : 54592721328 Question Type : MCQ Option Shuffling : Yes

Correct Marks : 1 Wrong Marks : 0.25

निर्देश: निम्नलिखित बार ग्राफ 3 शैक्षणिक वर्षों के लिए विभिन्न संस्थानों में इंजीनियरिंग छात्रों की संख्या को दर्शाता है। ग्राफ़ का अध्ययन करें और उन सवालों के जवाब दें जो अनुसरण करते हैं।



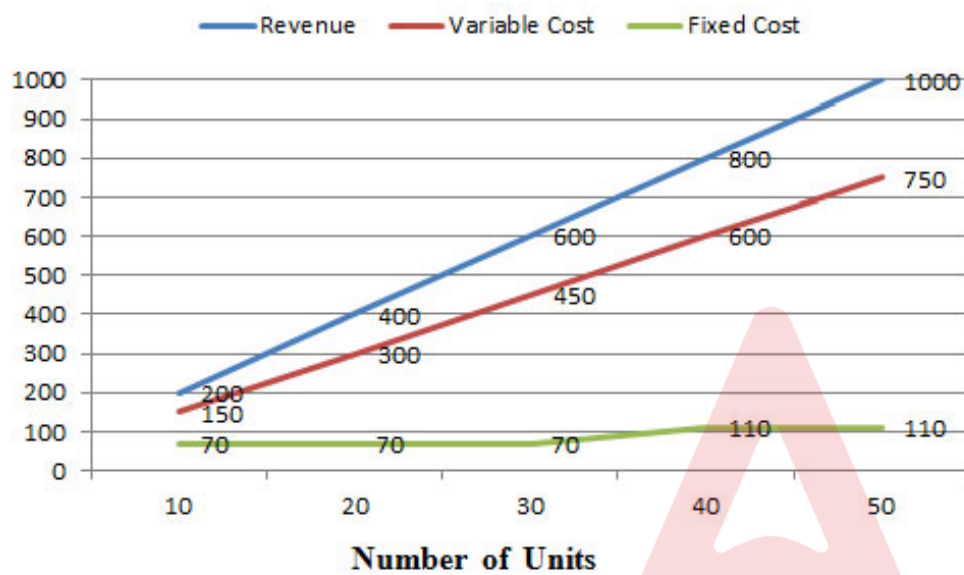
1990-91 में, इंजीनियरिंग के कितने प्रतिशत छात्र आईआईटी में पढ़ रहे थे?

Options :

1. ✖ 16
2. ✖ 15
3. ✔ 13
4. ✖ 12

Question Number : 119 Question Id : 54592721329 Question Type : MCQ Option Shuffling : Yes
Correct Marks : 1 Wrong Marks : 0.25

DIRECTION: Ramesh has a manufacturing unit. The following graph gives the cost of various number of units. Given that $\text{profit} = \text{Revenue} - \text{Variable cost} - \text{Fixed cost}$. The fixed cost remains constant upto 34 units after which additional investment is to be done in fixed assets. In any case production can not exceed 50 units.

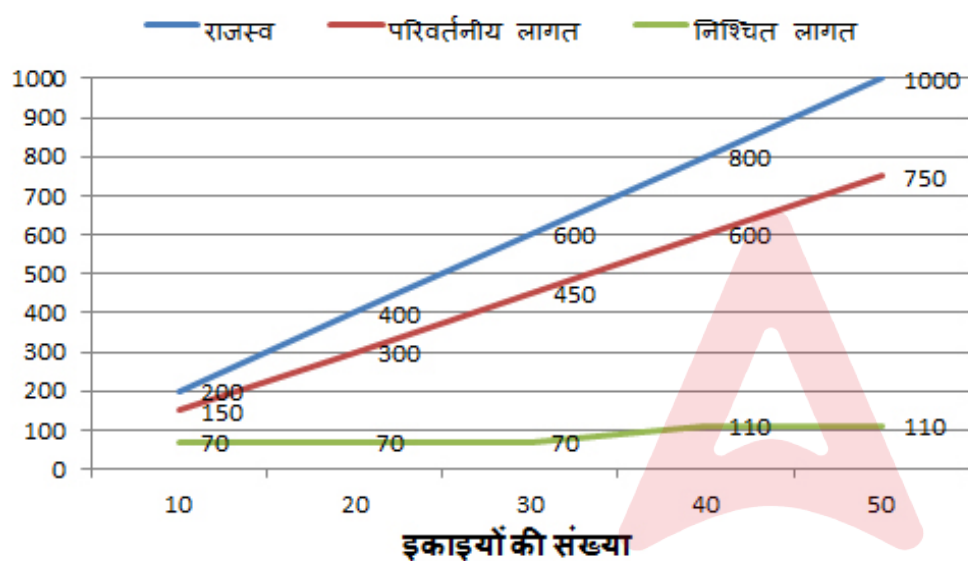


What is the minimum number of units that need to be produced to make sure that there was no loss?

Options :

1. ✖ 5
2. ✔ 10
3. ✖ 20
4. ✖ Indeterminate

निर्देश: रमेश की एक विनिर्माण इकाई है। निम्नलिखित ग्राफ विभिन्न इकाइयों की लागत की जानकारी देता है। यह दिया गया है की: लाभ = राजस्व – परिवर्तनीय लागत – निश्चित लागत। निश्चित लागत 34 इकाइयों तक स्थिर रहती है जिसके बाद निश्चित लागत में अतिरिक्त निवेश को जोड़ा जाता है। किसी भी परिस्थिति में उत्पादन 50 इकाइयों से अधिक नहीं हो सकता है।



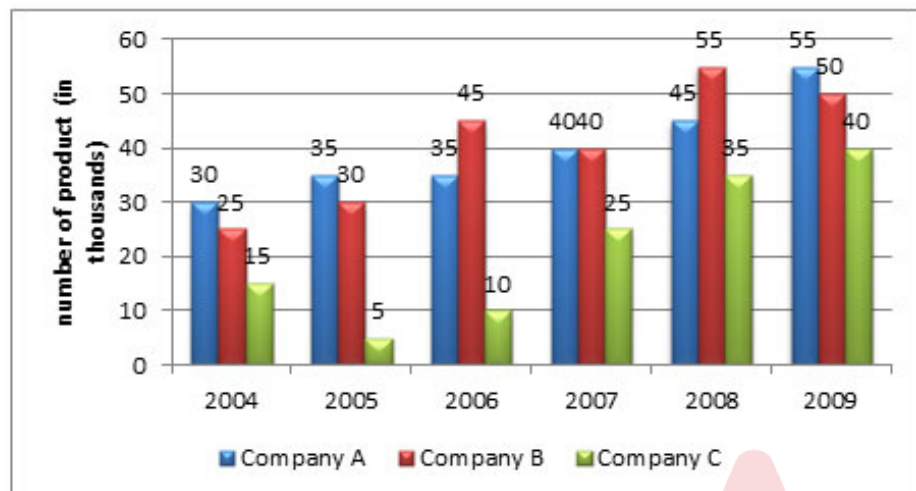
यह सुनिश्चित करने के लिए कि कोई नुकसान न हो, ऐसी कितनी न्यूनतम इकाइयाँ हैं जिनका उत्पादन किया जाना चाहिए?

Options :

1. ✖ 5
2. ✔ 10
3. ✖ 20
4. ✖ अनिश्चित

DIRECTIONS: Study the following graph carefully to answer the questions that follow:

Number of televisions (in thousands) manufactured by three different companies in six different years



If 25 per cent of the number of televisions manufactured by company A over all the years together were black and white, then what was the number of coloured televisions manufactured by company-A over all the years together?

Options :

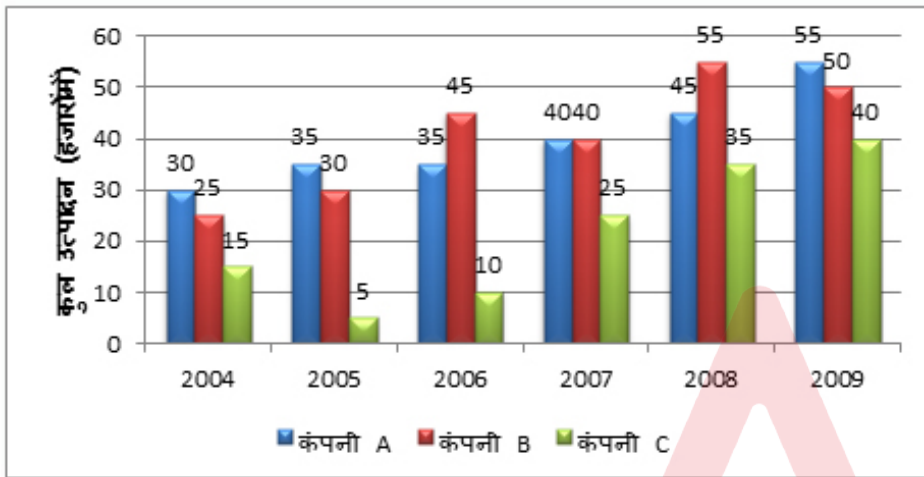
1. ✖ 1.4 lakhs
2. ✖ 14,000 lakhs
3. ✔ 1.8 lakhs
4. ✖ 18,000 lakhs

Question Number : 120 Question Id : 54592721330 Question Type : MCQ Option Shuffling : Yes

Correct Marks : 1 Wrong Marks : 0.25

निर्देश: दिए गए प्रश्न का उत्तर देने के लिए निम्नलिखित ग्राफ का ध्यानपूर्वक अध्ययन करें:

छह अलग-अलग वर्षों में तीन अलग-अलग कंपनियों द्वारा निर्मित टेलीविजनों (हजारों में) की संख्या



यदि सभी वर्षों में कंपनी A द्वारा निर्मित टेलीविज़न की संख्या का 25 प्रतिशत ब्लैक एंड वाइट थे, तो कंपनी-A द्वारा एक साथ सभी वर्षों में निर्मित रंगीन टेलीविजनों की कुल संख्या कितनी थी?

Options :

1. ✖ 1.4 लाख
2. ✖ 14,000 लाख
3. ✔ 1.8 लाख
4. ✖ 18,000 लाख

General English1

Group Number :

7

Group Id :

5459271057

Group Maximum Duration :

0

Group Minimum Duration :	0
Show Attended Group? :	No
Edit Attended Group? :	No
Break time:	0
Group Marks:	20
Is this Group for Examiner?:	No
Revisit allowed for group Instructions? :	Yes
Maximum Instruction Time:	0
Minimum Instruction Time:	0

General English1

Section Id :	5459271057
Section Number :	1
Section type :	Online
Mandatory or Optional:	Mandatory
Number of Questions:	20
Number of Questions to be attempted:	20
Section Marks:	20

Sub-Section Number:	1
Sub-Section Id:	5459271267
Question Shuffling Allowed :	Yes

Question Number : 121 Question Id : 54592721331 Question Type : MCQ Option Shuffling : Yes
Correct Marks : 1 Wrong Marks : 0.25

Identify the fragment in the sentence which contains the grammatical error from the given options.

Single use plastics – from straws to retail bags – is illegal in Vermont by summer 2020.

Options :

- 1. ✖ Single use
- 2. ✖ straws to retail bags
- 3. ✔ is illegal
- 4. ✖ summer 2020

Question Number : 121 Question Id : 54592721331 Question Type : MCQ Option Shuffling : Yes
Correct Marks : 1 Wrong Marks : 0.25

Identify the fragment in the sentence which contains the grammatical error from the given options.

Single use plastics - from straws to retail bags - is illegal in Vermont by summer 2020.

Options :

1. ✖ Single use
2. ✖ straws to retail bags
3. ✔ is illegal
4. ✖ summer 2020

Question Number : 122 Question Id : 54592721332 Question Type : MCQ Option Shuffling : Yes
Correct Marks : 1 Wrong Marks : 0.25

Identify the fragment in the sentence which contains the grammatical error from the given options.

Humans are not on the menu of sharks: sharks bite humans out of curiosity or to defend itself.

Options :

1. ✖ Humans are
2. ✖ menu of sharks
3. ✖ out of curiosity
4. ✔ defend itself

Question Number : 122 Question Id : 54592721332 Question Type : MCQ Option Shuffling : Yes
Correct Marks : 1 Wrong Marks : 0.25

Identify the fragment in the sentence which contains the grammatical error from the given options.

Humans are not on the menu of sharks: sharks bite humans out of curiosity or to defend itself.

Options :

1. ✖ Humans are
2. ✖ menu of sharks
3. ✖ out of curiosity
4. ✔ defend itself

Question Number : 123 Question Id : 54592721333 Question Type : MCQ Option Shuffling : Yes
Correct Marks : 1 Wrong Marks : 0.25

Identify the fragment in the sentence which contains the grammatical error from the given options.

Artificial islands commonly known 'crannogs' are found in hundreds of Scottish lakes and waterways.

Options :

1. ✖ Artificial islands
2. ✔ commonly known
3. ✖ hundreds of
4. ✖ and waterways

Question Number : 123 Question Id : 54592721333 Question Type : MCQ Option Shuffling : Yes
Correct Marks : 1 Wrong Marks : 0.25

Identify the fragment in the sentence which contains the grammatical error from the given options.

Artificial islands commonly known 'crannogs' are found in hundreds of Scottish lakes and waterways.

Options :

1. ✖ Artificial islands
2. ✔ commonly known
3. ✖ hundreds of
4. ✖ and waterways

Question Number : 124 Question Id : 54592721334 Question Type : MCQ Option Shuffling : Yes
Correct Marks : 1 Wrong Marks : 0.25

Identify the fragment in the sentence which contains the grammatical error from the given options.

I was there to shoot a story about 'island restoration' in the east coast of Africa in Indian Ocean.

Options :

1. ✖ I was there
2. ✖ shoot a story
3. ✖ the east coast
4. ✔ in Indian Ocean

Question Number : 124 Question Id : 54592721334 Question Type : MCQ Option Shuffling : Yes
Correct Marks : 1 Wrong Marks : 0.25

Identify the fragment in the sentence which contains the grammatical error from the given options.

I was there to shoot a story about 'island restoration' in the east coast of Africa in Indian Ocean.

Options :

1. ✖ I was there
2. ✖ shoot a story
3. ✖ the east coast
4. ✔ in Indian Ocean

Question Number : 125 Question Id : 54592721335 Question Type : MCQ Option Shuffling : Yes
Correct Marks : 1 Wrong Marks : 0.25

Identify the fragment in the sentence which contains the grammatical error from the given options.

A study finds that seabirds are being destroy by predators, fishing, and climate change.

Options :

1. ✖ A study finds
2. ✔ being destroy
3. ✖ predators
4. ✖ and climate change

Question Number : 125 Question Id : 54592721335 Question Type : MCQ Option Shuffling : Yes
Correct Marks : 1 Wrong Marks : 0.25

Identify the fragment in the sentence which contains the grammatical error from the given options.

A study finds that seabirds are being destroy by predators, fishing, and climate change.

Options :

1. ✖ A study finds
2. ✔ being destroy
3. ✖ predators
4. ✖ and climate change

Question Number : 126 Question Id : 54592721336 Question Type : MCQ Option Shuffling : Yes
Correct Marks : 1 Wrong Marks : 0.25

Select the most appropriate option to substitute the underlined segment in the given sentence. If there is no need to substitute it, select option No substitution required.

Emperor penguins is extremely good at staying warm in the frigid Antarctic winter.

Options :

1. ✔ are extremely good at
2. ✖ are extreme good in
3. ✖ is extreme good at
4. ✖ No substitution required

Question Number : 126 Question Id : 54592721336 Question Type : MCQ Option Shuffling : Yes
Correct Marks : 1 Wrong Marks : 0.25

Select the most appropriate option to substitute the underlined segment in the given sentence. If there is no need to substitute it, select option No substitution required.

Emperor penguins is extremely good at staying warm in the frigid Antarctic winter.

Options :

1. ✓ are extremely good at
2. ✖ are extreme good in
3. ✖ is extreme good at
4. ✖ No substitution required

Question Number : 127 Question Id : 54592721337 Question Type : MCQ Option Shuffling : Yes
Correct Marks : 1 Wrong Marks : 0.25

Select the most appropriate option to substitute the underlined segment in the given sentence. If there is no need to substitute it, select option No substitution required.

There are many people who want to know if penguins are as clever like they are cute.

Options :

1. ✖ are clever like they
2. ✓ are as clever as they
3. ✖ is clever as they
4. ✖ No substitution required

Question Number : 127 Question Id : 54592721337 Question Type : MCQ Option Shuffling : Yes
Correct Marks : 1 Wrong Marks : 0.25

Select the most appropriate option to substitute the underlined segment in the given sentence. If there is no need to substitute it, select option No substitution required.

There are many people who want to know if penguins are as clever like they are cute.

Options :

1. ✖ are clever like they
2. ✔ are as clever as they
3. ✖ is clever as they
4. ✖ No substitution required

Question Number : 128 Question Id : 54592721338 Question Type : MCQ Option Shuffling : Yes
Correct Marks : 1 Wrong Marks : 0.25

Select the most appropriate option to substitute the underlined segment in the given sentence. If there is no need to substitute it, select option No substitution required.

The 13th Amendment to the nation's constitution that outlawed a practice was ratified in December 1865.

Options :

1. ✖ that outlaw
2. ✖ which outlaws a
3. ✔ which outlawed the
4. ✖ No substitution required

Question Number : 128 Question Id : 54592721338 Question Type : MCQ Option Shuffling : Yes
Correct Marks : 1 Wrong Marks : 0.25

Select the most appropriate option to substitute the underlined segment in the given sentence. If there is no need to substitute it, select option No substitution required.

The 13th Amendment to the nation's constitution that outlawed a practice was ratified in December 1865.

Options :

1. ✖ that outlaw
2. ✖ which outlaws a
3. ✔ which outlawed the
4. ✖ No substitution required

Question Number : 129 Question Id : 54592721339 Question Type : MCQ Option Shuffling : Yes
Correct Marks : 1 Wrong Marks : 0.25

Select the most appropriate option to substitute the underlined segment in the given sentence. If there is no need to substitute it, select option No substitution required.

Beginning in the mid-1980s, many American states took note of the ecological havoc and imposed severe restrictions or outright bans on the use of plastic.

Options :

1. ✖ take note of
2. ✖ taking note of the
3. ✖ took note in the
4. ✔ No substitution required

Question Number : 129 Question Id : 54592721339 Question Type : MCQ Option Shuffling : Yes
Correct Marks : 1 Wrong Marks : 0.25

Select the most appropriate option to substitute the underlined segment in the given sentence. If there is no need to substitute it, select option No substitution required.

Beginning in the mid-1980s, many American states took note of the ecological havoc and imposed severe restrictions or outright bans on the use of plastic.

Options :

1. ✖ take note of
2. ✖ taking note of the
3. ✖ took note in the
4. ✔ No substitution required

Question Number : 130 Question Id : 54592721340 Question Type : MCQ Option Shuffling : Yes
Correct Marks : 1 Wrong Marks : 0.25

Select the most appropriate option to substitute the underlined segment in the given sentence. If there is no need to substitute it, select option No substitution required.

To escape the attention of predators, the birds nest underground, in burrows, and come and goes only at the night.

Options :

1. ✔ come and go only at night

- 2. ✖ comes and goes only at night
- 3. ✖ comes and goes only at the night
- 4. ✖ No substitution required

Question Number : 130 Question Id : 54592721340 Question Type : MCQ Option Shuffling : Yes
Correct Marks : 1 Wrong Marks : 0.25

Select the most appropriate option to substitute the underlined segment in the given sentence. If there is no need to substitute it, select option No substitution required.

To escape the attention of predators, the birds nest underground, in burrows, and come and goes only at the night.

Options :

- 1. ✔ come and go only at night
- 2. ✖ comes and goes only at night
- 3. ✖ comes and goes only at the night
- 4. ✖ No substitution required

Question Number : 131 Question Id : 54592721341 Question Type : MCQ Option Shuffling : Yes
Correct Marks : 1 Wrong Marks : 0.25

Select the most appropriate word to fill in the blank.

The world has a plastic pollution problem and it's accelerating, _____ so is public awareness and action.

Options :

- 1. ✔ but
- 2. ✖ as

3. ✖ since

4. ✖ then

Question Number : 131 Question Id : 54592721341 Question Type : MCQ Option Shuffling : Yes
Correct Marks : 1 Wrong Marks : 0.25

Select the most appropriate word to fill in the blank.

The world has a plastic pollution problem and it's accelerating, _____ so is public awareness and action.

Options :

1. ✔ but

2. ✖ as

3. ✖ since

4. ✖ then

Question Number : 132 Question Id : 54592721342 Question Type : MCQ Option Shuffling : Yes
Correct Marks : 1 Wrong Marks : 0.25

Select the most appropriate word to fill in the blank.

A number of local businesses have _____ started switching to reusable, washable straws or disposable ones.

Options :

1. ✖ from

2. ✔ already

3. ✖ later

4. ✖ alternatively

Question Number : 132 Question Id : 54592721342 Question Type : MCQ Option Shuffling : Yes
Correct Marks : 1 Wrong Marks : 0.25

Select the most appropriate word to fill in the blank.

A number of local businesses have _____ started switching to reusable, washable straws or disposable ones.

Options :

- 1. ✖ from
- 2. ✔ already
- 3. ✖ later
- 4. ✖ alternatively

Question Number : 133 Question Id : 54592721343 Question Type : MCQ Option Shuffling : Yes
Correct Marks : 1 Wrong Marks : 0.25

Select the most appropriate word to fill in the blank.

We see the tiny outdoor kitchen (the oldest in Louisiana) where the enslaved cook _____ meals for the master's family.

Options :

- 1. ✖ will prepare
- 2. ✖ will have prepare
- 3. ✔ would have prepared
- 4. ✖ might have prepare

Question Number : 133 Question Id : 54592721343 Question Type : MCQ Option Shuffling : Yes
Correct Marks : 1 Wrong Marks : 0.25

Select the most appropriate word to fill in the blank.

We see the tiny outdoor kitchen (the oldest in Louisiana) where the enslaved cook _____ meals for the master's family.

Options :

1. ✖ will prepare
2. ✖ will have prepare
3. ✔ would have prepared
4. ✖ might have prepare

Question Number : 134 Question Id : 54592721344 Question Type : MCQ Option Shuffling : Yes
Correct Marks : 1 Wrong Marks : 0.25

Select the most appropriate word to fill in the blank.

The Colorado Plateau area—which also covers parts of Arizona, Colorado and New Mexico—has remained relatively undisturbed for _____ 600 million years.

Options :

1. ✖ since
2. ✖ alike
3. ✖ across
4. ✔ around

Question Number : 134 Question Id : 54592721344 Question Type : MCQ Option Shuffling : Yes
Correct Marks : 1 Wrong Marks : 0.25

Select the most appropriate word to fill in the blank.

The Colorado Plateau area—which also covers parts of Arizona, Colorado and New Mexico—has remained relatively undisturbed for _____ 600 million years.

Options :

1. ✖ since
2. ✖ alike
3. ✖ across
4. ✔ around

Question Number : 135 Question Id : 54592721345 Question Type : MCQ Option Shuffling : Yes
Correct Marks : 1 Wrong Marks : 0.25

Select the most appropriate word to fill in the blank.

Once you visit Lake Sunapee in the summer you will count _____ the days until it's time to return.

Options :

1. ✔ down
2. ✖ up
3. ✖ above
4. ✖ across

Question Number : 135 Question Id : 54592721345 Question Type : MCQ Option Shuffling : Yes
Correct Marks : 1 Wrong Marks : 0.25

Select the most appropriate word to fill in the blank.

Once you visit Lake Sunapee in the summer you will count _____ the days until it's time to return.

Options :

1. ✓ down
2. ✗ up
3. ✗ above
4. ✗ across

Question Number : 136 Question Id : 54592721346 Question Type : MCQ Option Shuffling : Yes
Correct Marks : 1 Wrong Marks : 0.25

Select the most appropriate word to fill in the blank.

_____ apples are the star of fall, then strawberries take the center stage of summer and there's no better place to snack on these red beauties than the national park.

Options :

1. ✗ Although
2. ✓ If
3. ✗ Since
4. ✗ Foremost

Question Number : 136 Question Id : 54592721346 Question Type : MCQ Option Shuffling : Yes
Correct Marks : 1 Wrong Marks : 0.25

Select the most appropriate word to fill in the blank.

_____ apples are the star of fall, then strawberries take the center stage of summer and there's no better place to snack on these red beauties than the national park.

Options :

1. ✖ Although
2. ✔ If
3. ✖ Since
4. ✖ Foremost

Question Number : 137 Question Id : 54592721347 Question Type : MCQ Option Shuffling : Yes
Correct Marks : 1 Wrong Marks : 0.25

Select the most appropriate word to fill in the blank.

Nazaré is one of the most attractive beach _____ in Portugal, with some of the largest waves in the world.

Options :

1. ✖ town
2. ✖ sights
3. ✔ towns
4. ✖ palace

Question Number : 137 Question Id : 54592721347 Question Type : MCQ Option Shuffling : Yes
Correct Marks : 1 Wrong Marks : 0.25

Select the most appropriate word to fill in the blank.

Nazaré is one of the most attractive beach _____ in Portugal, with some of the largest waves in the world.

Options :

1. ✖ town
2. ✖ sights
3. ✔ towns
4. ✖ palace

Question Number : 138 Question Id : 54592721348 Question Type : MCQ Option Shuffling : Yes

Correct Marks : 1 Wrong Marks : 0.25

Select the most appropriate word to fill in the blank.

The central part of the village is home to nearly thirty thermal water reservoirs of _____ temperatures and chemical compositions

Options :

1. ✖ difference
2. ✖ differential
3. ✖ differ
4. ✔ differing

Question Number : 138 Question Id : 54592721348 Question Type : MCQ Option Shuffling : Yes

Correct Marks : 1 Wrong Marks : 0.25

Select the most appropriate word to fill in the blank.

The central part of the village is home to nearly thirty thermal water reservoirs of _____ temperatures and chemical compositions

Options :

1. ✖ difference
2. ✖ differential
3. ✖ differ
4. ✔ differing

Question Number : 139 Question Id : 54592721349 Question Type : MCQ Option Shuffling : Yes
Correct Marks : 1 Wrong Marks : 0.25

Parts of a sentence have been jumbled up. Arrange these parts in a meaningful order.

are killing the trees in the Sunderbans, (A) the natural wall that protects (B) rising waters and illicit logging (C) the India – Bangladesh Coast (D)

Options :

1. ✔ CABD
2. ✖ DACB
3. ✖ CBAD
4. ✖ DABC

Question Number : 139 Question Id : 54592721349 Question Type : MCQ Option Shuffling : Yes
Correct Marks : 1 Wrong Marks : 0.25

Parts of a sentence have been jumbled up. Arrange these parts in a meaningful order.

are killing the trees in the Sunderbans, (A) the natural wall that protects (B) rising waters and illicit logging (C) the India - Bangladesh Coast (D)

Options :

1. ✓ CABD
2. ✗ DACB
3. ✗ CBAD
4. ✗ DABC

Question Number : 140 Question Id : 54592721350 Question Type : MCQ Option Shuffling : Yes
Correct Marks : 1 Wrong Marks : 0.25

Parts of a sentence have been jumbled up. Arrange these parts in a meaningful order.

tends to be something (A) Because it seems like a stunt (B) that NASA has avoided in assignments (C) An all-female mission (D)

Options :

1. ✗ BCDA
2. ✓ DACB
3. ✗ DABC
4. ✗ BACD

Question Number : 140 Question Id : 54592721350 Question Type : MCQ Option Shuffling : Yes
Correct Marks : 1 Wrong Marks : 0.25

Parts of a sentence have been jumbled up. Arrange these parts in a meaningful order.

tends to be something (A) Because it seems like a stunt
(B) that NASA has avoided in assignments (C) An
all-female mission (D)

Options :

- 1. ✖ BCDA
- 2. ✔ DACB
- 3. ✖ DABC
- 4. ✖ BACD

General English2

Group Number :	8
Group Id :	5459271058
Group Maximum Duration :	0
Group Minimum Duration :	0
Show Attended Group? :	No
Edit Attended Group? :	No
Break time:	0
Group Marks:	20
Is this Group for Examiner?:	No
Revisit allowed for group Instructions? :	Yes
Maximum Instruction Time:	0
Minimum Instruction Time:	0

General English2

Section Id :	5459271058
Section Number :	1
Section type :	Online
Mandatory or Optional:	Mandatory
Number of Questions:	16
Number of Questions to be attempted:	16
Section Marks:	20

Sub-Section Id:

5459271268

Question Shuffling Allowed :

Yes

Question Number : 141 Question Id : 54592721351 Question Type : MCQ Option Shuffling : Yes

Correct Marks : 1 Wrong Marks : 0.25

Rearrange the following sentences in their correct order to form a meaningful paragraph.

A: “We were warned by conservationists in other countries that the poachers would eventually come down to Botswana” he says.

B: Until recently, the southern African country had largely escaped the scourge of elephant killings.

C: “We have a significant poaching problem—let’s deal with it,” says Mike Chase: director of the Botswana-based nonprofit Elephants Without Borders.

D: Botswana—widely considered a safe haven for elephants in Africa—appears to be suffering.

E. Botswana is estimated to be home to more than 130,000 savanna elephant.

Options :

1. ✖ AEBDC

2. ✖ EBDCA

3. ✔ DCAEB

4. ✖ DCBEA

Question Number : 141 Question Id : 54592721351 Question Type : MCQ Option Shuffling : Yes

Correct Marks : 1 Wrong Marks : 0.25

Rearrange the following sentences in their correct order to form a meaningful paragraph.

A: "We were warned by conservationists in other countries that the poachers would eventually come down to Botswana" he says.

B: Until recently, the southern African country had largely escaped the scourge of elephant killings.

C: "We have a significant poaching problem—let's deal with it," says Mike Chase: director of the Botswana-based nonprofit Elephants Without Borders.

D: Botswana—widely considered a safe haven for elephants in Africa—appears to be suffering.

E. Botswana is estimated to be home to more than 130,000 savanna elephant.

Options :

1. ✖ AEBDC

2. ✖ EBDCA

3. ✔ DCAEB

4. ✖ DCBEA

Question Number : 142 Question Id : 54592721352 Question Type : MCQ Option Shuffling : Yes

Correct Marks : 1 Wrong Marks : 0.25

Select the synonym of the given word.

Contaminate

Options :

1. ✓ Pollute
2. ✗ Allergic
3. ✗ Assemble
4. ✗ Assert

Question Number : 142 Question Id : 54592721352 Question Type : MCQ Option Shuffling : Yes
Correct Marks : 1 Wrong Marks : 0.25

Select the synonym of the given word.

Contaminate

Options :

1. ✓ Pollute
2. ✗ Allergic
3. ✗ Assemble
4. ✗ Assert

Question Number : 143 Question Id : 54592721353 Question Type : MCQ Option Shuffling : Yes
Correct Marks : 1 Wrong Marks : 0.25

Select the antonym of the given word.

Extravagant

Options :

1. ✗ Suave
2. ✓ Meagre
3. ✗ Flexible
4. ✗ Capricious

Question Number : 143 Question Id : 54592721353 Question Type : MCQ Option Shuffling : Yes
Correct Marks : 1 Wrong Marks : 0.25

Select the antonym of the given word.

Extravagant

Options :

1. ✖ Suave
2. ✔ Meagre
3. ✖ Flexible
4. ✖ Capricious

Question Number : 144 Question Id : 54592721354 Question Type : MCQ Option Shuffling : Yes
Correct Marks : 1 Wrong Marks : 0.25

Select the synonym of the given word.

Envious

Options :

1. ✖ Generous
2. ✖ Ominous
3. ✔ Resentful
4. ✖ Auspicious

Question Number : 144 Question Id : 54592721354 Question Type : MCQ Option Shuffling : Yes
Correct Marks : 1 Wrong Marks : 0.25

Select the synonym of the given word.

Envious

Options :

1. ✖ Generous
2. ✖ Ominous

3. ✓ Resentful

4. ✗ Auspicious

Question Number : 145 Question Id : 54592721355 Question Type : MCQ Option Shuffling : Yes
Correct Marks : 1 Wrong Marks : 0.25

Select the antonym of the given word.

Faint heart

Options :

1. ✓ Gallant

2. ✗ Decisive

3. ✗ Progressive

4. ✗ Malodorous

Question Number : 145 Question Id : 54592721355 Question Type : MCQ Option Shuffling : Yes
Correct Marks : 1 Wrong Marks : 0.25

Select the antonym of the given word.

Faint heart

Options :

1. ✓ Gallant

2. ✗ Decisive

3. ✗ Progressive

4. ✗ Malodorous

Question Number : 146 Question Id : 54592721356 Question Type : MCQ Option Shuffling : Yes
Correct Marks : 1 Wrong Marks : 0.25

Select the correct pair of homophones to fill in the blanks.
The debut singer was showered with _____ on her new popular song. The dress she brought for the party didn't _____ her style.

Options :

1. ✖ complements, compliment
2. ✔ compliments, complement
3. ✖ compliment, complements
4. ✖ complement, compliment

Question Number : 146 Question Id : 54592721356 Question Type : MCQ Option Shuffling : Yes
Correct Marks : 1 Wrong Marks : 0.25

Select the correct pair of homophones to fill in the blanks.
The debut singer was showered with _____ on her new popular song. The dress she brought for the party didn't _____ her style.

Options :

1. ✖ complements, compliment
2. ✔ compliments, complement
3. ✖ compliment, complements
4. ✖ complement, compliment

Question Number : 147 Question Id : 54592721357 Question Type : MCQ Option Shuffling : Yes
Correct Marks : 1 Wrong Marks : 0.25

Select the wrongly spelt word.

Options :

1. ✔ Exaggerate
2. ✖ Advertise
3. ✖ Dilemma

4. ✖ Existence

Question Number : 147 Question Id : 54592721357 Question Type : MCQ Option Shuffling : Yes
Correct Marks : 1 Wrong Marks : 0.25

Select the wrongly spelt word.

Options :

1. ✔ Exagerate
2. ✖ Advertise
3. ✖ Dilemma
4. ✖ Existence

Question Number : 148 Question Id : 54592721358 Question Type : MCQ Option Shuffling : Yes
Correct Marks : 1 Wrong Marks : 0.25

Select the wrongly spelt word

Options :

1. ✖ Mysteriorous
2. ✔ Divergant
3. ✖ Privilege
4. ✖ Omission

Question Number : 148 Question Id : 54592721358 Question Type : MCQ Option Shuffling : Yes
Correct Marks : 1 Wrong Marks : 0.25

Select the wrongly spelt word

Options :

1. ✖ Mysteriorous
2. ✔ Divergant
3. ✖ Privilege
4. ✖ Omission

Question Number : 149 Question Id : 54592721359 Question Type : MCQ Option Shuffling : Yes
Correct Marks : 1 Wrong Marks : 0.25

Select the wrongly spelt word.

Options :

1. ✖ Opulent
2. ✖ Integrity
3. ✔ Supress
4. ✖ Censure

Question Number : 149 Question Id : 54592721359 Question Type : MCQ Option Shuffling : Yes
Correct Marks : 1 Wrong Marks : 0.25

Select the wrongly spelt word.

Options :

1. ✖ Opulent
2. ✖ Integrity
3. ✔ Supress
4. ✖ Censure

Question Number : 150 Question Id : 54592721360 Question Type : MCQ Option Shuffling : Yes
Correct Marks : 1 Wrong Marks : 0.25

Select the meaning of the given idiom.

On the dot

Options :

1. ✔ At the exact time specified
2. ✖ At the last minute
3. ✖ In small numbers
4. ✖ In short

Question Number : 150 Question Id : 54592721360 Question Type : MCQ Option Shuffling : Yes
Correct Marks : 1 Wrong Marks : 0.25

Select the meaning of the given idiom.

On the dot

Options :

1. ✓ At the exact time specified
2. ✗ At the last minute
3. ✗ In small numbers
4. ✗ In short

Question Number : 151 Question Id : 54592721361 Question Type : MCQ Option Shuffling : Yes
Correct Marks : 1 Wrong Marks : 0.25

Select the meaning of the given idiom.

To cross one's mind

Options :

1. ✗ To disagree
2. ✓ To be thought of by one
3. ✗ Be caught in a dispute
4. ✗ To memorize

Question Number : 151 Question Id : 54592721361 Question Type : MCQ Option Shuffling : Yes
Correct Marks : 1 Wrong Marks : 0.25

Select the meaning of the given idiom.

To cross one's mind

Options :

1. ✗ To disagree
2. ✓ To be thought of by one

3. ✖ Be caught in a dispute

4. ✖ To memorize

Question Number : 152 Question Id : 54592721362 Question Type : MCQ Option Shuffling : Yes
Correct Marks : 1 Wrong Marks : 0.25

Select the meaning of the given idiom.

Under the weather

Options :

1. ✖ To face criticism

2. ✖ Be under somebody's influence

3. ✔ To be mildly ill

4. ✖ In rainy season

Question Number : 152 Question Id : 54592721362 Question Type : MCQ Option Shuffling : Yes
Correct Marks : 1 Wrong Marks : 0.25

Select the meaning of the given idiom.

Under the weather

Options :

1. ✖ To face criticism

2. ✖ Be under somebody's influence

3. ✔ To be mildly ill

4. ✖ In rainy season

Question Number : 153 Question Id : 54592721363 Question Type : MCQ Option Shuffling : Yes
Correct Marks : 1 Wrong Marks : 0.25

Select the word which means the same as the group of words given.

A small group of people having control of a country or an organization

Options :

1. ✓ Oligarchy
2. ✗ Anarchy
3. ✗ Monopoly
4. ✗ Aristocracy

Question Number : 153 Question Id : 54592721363 Question Type : MCQ Option Shuffling : Yes
Correct Marks : 1 Wrong Marks : 0.25

Select the word which means the same as the group of words given.

A small group of people having control of a country or an organization

Options :

1. ✓ Oligarchy
2. ✗ Anarchy
3. ✗ Monopoly
4. ✗ Aristocracy

Question Number : 154 Question Id : 54592721364 Question Type : MCQ Option Shuffling : Yes
Correct Marks : 1 Wrong Marks : 0.25

Select the word which means the same as the group of words given.

A partial or total loss of memory

Options :

1. ✖ Axiom
2. ✔ Amnesia
3. ✖ Anatomy
4. ✖ Antidote

Question Number : 154 Question Id : 54592721364 Question Type : MCQ Option Shuffling : Yes
Correct Marks : 1 Wrong Marks : 0.25

Select the word which means the same as the group of words given.

A partial or total loss of memory

Options :

1. ✖ Axiom
2. ✔ Amnesia
3. ✖ Anatomy
4. ✖ Antidote

Question Number : 155 Question Id : 54592721365 Question Type : MCQ Option Shuffling : Yes
Correct Marks : 1 Wrong Marks : 0.25

Select the word which means the same as the group of words given.

A person knowing or using several languages

Options :

1. ✖ Polymorph

- 2. ✖ Fanatic
- 3. ✔ Polyglot
- 4. ✖ Invigilator

Question Number : 155 Question Id : 54592721365 Question Type : MCQ Option Shuffling : Yes
Correct Marks : 1 Wrong Marks : 0.25

Select the word which means the same as the group of words given.

A person knowing or using several languages

Options :

- 1. ✖ Polymorph
- 2. ✖ Fanatic
- 3. ✔ Polyglot
- 4. ✖ Invigilator

Sub-Section Number: 2
Sub-Section Id: 5459271269
Question Shuffling Allowed : Yes

Question Id : 54592721366 Question Type : COMPREHENSION Sub Question Shuffling Allowed : Yes Group Comprehension Questions : No
Question Numbers : (156 to 160)

Question Label : Comprehension

Answer the questions based on the following passage.

Organic farming is a method of crop and livestock production that involves much more than choosing not to use pesticides, fertilizers, genetically modified organisms, antibiotics and growth hormones.

Organic production is a holistic system designed to optimize the productivity and fitness of diverse communities within the agro-ecosystem, including soil organisms, plants, livestock and people. The principal goal of organic production is to develop enterprises that are sustainable and harmonious with the environment.

Organic farming promotes the use of crop rotations and cover crops, and encourages balanced host/predator relationships.

Organic residues and nutrients produced on the farm are recycled back to the soil. Cover crops and composted manure are used to maintain soil organic matter and fertility.

Preventative insect and disease control methods are practiced, including crop rotation, improved genetics and resistant varieties. Integrated pest and weed management, and soil conservation systems are valuable tools on an organic farm.

Organically approved pesticides include “natural” or other pest management products included in the Permitted Substances List (PSL) of the organic standards. The Permitted Substances List identifies substances permitted for use as a pesticides in organic agriculture. All grains, forages and protein supplements fed to livestock must be organically grown.

The organic standards generally prohibit products of genetic engineering and animal cloning, synthetic pesticides, synthetic fertilizers, sewage sludge, synthetic drugs, synthetic food processing aids and ingredients, and ionizing radiation.

Prohibited products and practices must not be used on certified organic farms for at least three years prior to harvest of the certified organic products. Livestock must be raised organically and fed 100 per cent organic feed ingredients.

Organic farming presents many challenges. Some crops are more challenging than others to grow organically; however, nearly every commodity can be produced organically.

Sub questions

Question Number : 156 Question Id : 54592721367 Question Type : MCQ Option Shuffling : Yes
Correct Marks : 1 Wrong Marks : 0.25

The purpose of the passage is to:

Options :

1. ✓ Throw light upon the concept of 'Organic Farming' in general.
2. ✗ Highlight the importance of organic farming
3. ✗ To show that it's a poor alternative to other methods of farming
4. ✗ To describe threats associated with organic farming

Question Number : 157 Question Id : 54592721368 Question Type : MCQ Option Shuffling : Yes
Correct Marks : 1 Wrong Marks : 0.25

Match the words with their meaning:

- a. Diverse
- b. Principal
- c. Harmonious
- d. Tuneful
- e. Important
- f. Different

Options :

1. ✗ a-d, b- e, c-f
2. ✓ a-f, b-e , c-d
3. ✗ a- e, b- d, c- f
4. ✗ a- d, b- f, c-e

Question Number : 158 Question Id : 54592721369 Question Type : MCQ Option Shuffling : Yes
Correct Marks : 1 Wrong Marks : 0.25

According to the passage, which of the following statements is NOT true with regard to organic farming?

Options :

1. ✖ Organic production is a holistic system
2. ✖ It aims at creating sustainable and harmonious environment
3. ✔ Organic farming doesn't promote the use of crop rotations and cover crops
4. ✖ Organic farming prohibits products of genetic engineering

Question Number : 159 Question Id : 54592721370 Question Type : MCQ Option Shuffling : Yes
Correct Marks : 1 Wrong Marks : 0.25

According to the passage, preventative and disease control methods do not include one of the following:

Options :

1. ✖ Crop Rotation
2. ✖ Improved Genetics
3. ✖ Resistant Varieties
4. ✔ Protein Supplements

Question Number : 160 Question Id : 54592721371 Question Type : MCQ Option Shuffling : Yes
Correct Marks : 1 Wrong Marks : 0.25

Prohibited products and practices must not be used on certified organic farms for:

Options :

1. ✔ At least 3 years
2. ✖ At most 3 years
3. ✖ 3 to 5 years
4. ✖ More than 3 years

Question Id : 54592721366 Question Type : COMPREHENSION Sub Question Shuffling Allowed : Yes Group Comprehension
Questions : No
Question Numbers : (156 to 160)

Question Label : Comprehension

Answer the questions based on the following passage.

Organic farming is a method of crop and livestock production that involves much more than choosing not to use pesticides, fertilizers, genetically modified organisms, antibiotics and growth hormones.

Organic production is a holistic system designed to optimize the productivity and fitness of diverse communities within the agro-ecosystem, including soil organisms, plants, livestock and people. The principal goal of organic production is to develop enterprises that are sustainable and harmonious with the environment.

Organic farming promotes the use of crop rotations and cover crops, and encourages balanced host/predator relationships. Organic residues and nutrients produced on the farm are recycled back to the soil. Cover crops and composted manure are used to maintain soil organic matter and fertility. Preventative insect and disease control methods are practiced, including crop rotation, improved genetics and resistant varieties. Integrated pest and weed management, and soil conservation systems are valuable tools on an organic farm. Organically approved pesticides include “natural” or other pest management products included in the Permitted Substances List (PSL) of the organic standards. The Permitted Substances List identifies substances permitted for use as a pesticides in organic agriculture. All grains, forages and protein supplements fed to livestock must be organically grown.

The organic standards generally prohibit products of genetic engineering and animal cloning, synthetic pesticides, synthetic fertilizers, sewage sludge, synthetic drugs, synthetic food processing aids and ingredients, and ionizing radiation. Prohibited products and practices must not be used on certified organic farms for at least three years prior to harvest of the certified organic products. Livestock must be raised organically and fed 100 per cent organic feed ingredients.

Organic farming presents many challenges. Some crops are more challenging than others to grow organically; however, nearly every commodity can be produced organically.

Sub questions

Question Number : 156 Question Id : 54592721367 Question Type : MCQ Option Shuffling : Yes
Correct Marks : 1 Wrong Marks : 0.25

The purpose of the passage is to:

Options :

1. ✓ Throw light upon the concept of 'Organic Farming' in general.
2. ✗ Highlight the importance of organic farming
3. ✗ To show that it's a poor alternative to other methods of farming
4. ✗ To describe threats associated with organic farming

Question Number : 157 Question Id : 54592721368 Question Type : MCQ Option Shuffling : Yes
Correct Marks : 1 Wrong Marks : 0.25

Match the words with their meaning:

- a. Diverse
- b. Principal
- c. Harmonious
- d. Tuneful
- e. Important
- f. Different

Options :

1. ✗ a-d, b- e, c-f
2. ✓ a-f, b-e , c-d
3. ✗ a- e, b- d, c- f
4. ✗ a- d, b- f, c-e

Question Number : 158 Question Id : 54592721369 Question Type : MCQ Option Shuffling : Yes

Correct Marks : 1 Wrong Marks : 0.25

According to the passage, which of the following statements is NOT true with regard to organic farming?

Options :

1. ✖ Organic production is a holistic system
2. ✖ It aims at creating sustainable and harmonious environment
3. ✔ Organic farming doesn't promote the use of crop rotations and cover crops
4. ✖ Organic farming prohibits products of genetic engineering

Question Number : 159 Question Id : 54592721370 Question Type : MCQ Option Shuffling : Yes

Correct Marks : 1 Wrong Marks : 0.25

According to the passage, preventative and disease control methods do not include one of the following:

Options :

1. ✖ Crop Rotation
2. ✖ Improved Genetics
3. ✖ Resistant Varieties
4. ✔ Protein Supplements

Question Number : 160 Question Id : 54592721371 Question Type : MCQ Option Shuffling : Yes

Correct Marks : 1 Wrong Marks : 0.25

Prohibited products and practices must not be used on certified organic farms for:

Options :

1. ✔ At least 3 years

2. ✖ At most 3 years
3. ✖ 3 to 5 years
4. ✖ More than 3 years

General Hindi1

Group Number :	9
Group Id :	5459271059
Group Maximum Duration :	0
Group Minimum Duration :	0
Show Attended Group? :	No
Edit Attended Group? :	No
Break time:	0
Group Marks:	20
Is this Group for Examiner?:	No
Revisit allowed for group Instructions? :	Yes
Maximum Instruction Time:	0
Minimum Instruction Time:	0

General Hindi1

Section Id :	5459271059
Section Number :	1
Section type :	Online
Mandatory or Optional:	Mandatory
Number of Questions:	20
Number of Questions to be attempted:	20
Section Marks:	20

Sub-Section Number:	1
Sub-Section Id:	5459271270
Question Shuffling Allowed :	Yes

Question Number : 161 Question Id : 54592721372 Question Type : MCQ Option Shuffling : Yes
Correct Marks : 1 Wrong Marks : 0.25

निम्न में से तत्पुरुष समास का उदाहरण कौन-सा है?

Options :

1. ✔ देवालय
2. ✖ महादेव
3. ✖ सीतारात

4. ✖ प्रफुल्ल

Question Number : 161 Question Id : 54592721372 Question Type : MCQ Option Shuffling : Yes
Correct Marks : 1 Wrong Marks : 0.25

निम्न में से तत्पुरुष समास का उदाहरण कौन-सा है?

Options :

1. ✔ देवालय

2. ✖ महादेव

3. ✖ सीतारात

4. ✖ प्रफुल्ल

Question Number : 162 Question Id : 54592721373 Question Type : MCQ Option Shuffling : Yes
Correct Marks : 1 Wrong Marks : 0.25

निम्न में से स्वर संधि का उदाहरण कौन-सा है?

Options :

1. ✔ सूर्योदय

2. ✖ अधोगति

3. ✖ निराशा

4. ✖ तदानुसार

Question Number : 162 Question Id : 54592721373 Question Type : MCQ Option Shuffling : Yes
Correct Marks : 1 Wrong Marks : 0.25

निम्न में से स्वर संधि का उदाहरण कौन-सा है?

Options :

1. ✔ सूर्योदय

2. ✖ अधोगति

3. ✖ निराशा

4. ✖ तदानुसार

Question Number : 163 Question Id : 54592721374 Question Type : MCQ Option Shuffling : Yes
Correct Marks : 1 Wrong Marks : 0.25

कौन से शब्द में पन प्रत्यय नहीं है-

Options :

1. ✖ बचपन
2. ✔ छप्पन
3. ✖ लड़कपन
4. ✖ कालापन

Question Number : 163 Question Id : 54592721374 Question Type : MCQ Option Shuffling : Yes
Correct Marks : 1 Wrong Marks : 0.25

कौन से शब्द में पन प्रत्यय नहीं है-

Options :

1. ✖ बचपन
2. ✔ छप्पन
3. ✖ लड़कपन
4. ✖ कालापन

Question Number : 164 Question Id : 54592721375 Question Type : MCQ Option Shuffling : Yes
Correct Marks : 1 Wrong Marks : 0.25

निम्नलिखित शब्दों में से तत्सम शब्द ज्ञात कीजिए-

Options :

1. ✔ चंद्रिका
2. ✖ मीत
3. ✖ नखरा
4. ✖ धीरज

Question Number : 164 Question Id : 54592721375 Question Type : MCQ Option Shuffling : Yes
Correct Marks : 1 Wrong Marks : 0.25

निम्नलिखित शब्दों में से तत्सम शब्द ज्ञात कीजिए-

Options :

1. ✔ चंद्रिका
2. ✖ मीत
3. ✖ नखरा

4. ✖ धीरज

Question Number : 165 Question Id : 54592721376 Question Type : MCQ Option Shuffling : Yes
Correct Marks : 1 Wrong Marks : 0.25

निम्नलिखित में से कौन-सा सर्वनाम का भेद नहीं है-

Options :

1. ✖ पुरुषवाचक
2. ✔ भाववाचक
3. ✖ संबंधवाचक
4. ✖ निजवाचक

Question Number : 165 Question Id : 54592721376 Question Type : MCQ Option Shuffling : Yes
Correct Marks : 1 Wrong Marks : 0.25

निम्नलिखित में से कौन-सा सर्वनाम का भेद नहीं है-

Options :

1. ✖ पुरुषवाचक
2. ✔ भाववाचक
3. ✖ संबंधवाचक
4. ✖ निजवाचक

Question Number : 166 Question Id : 54592721377 Question Type : MCQ Option Shuffling : Yes
Correct Marks : 1 Wrong Marks : 0.25

निम्न में से अशुद्ध पर्यावाची शब्द कौन सा है-

Options :

1. ✖ हरि
2. ✖ तुरंग
3. ✖ हय
4. ✔ वारि

Question Number : 166 Question Id : 54592721377 Question Type : MCQ Option Shuffling : Yes
Correct Marks : 1 Wrong Marks : 0.25

निम्न में से अशुद्ध पर्यावाची शब्द कौन सा है-

Options :

1. ✖ हरि
2. ✖ तुरंग
3. ✖ हय
4. ✔ वारि

Question Number : 167 Question Id : 54592721378 Question Type : MCQ Option Shuffling : Yes
Correct Marks : 1 Wrong Marks : 0.25

उपयुक्त विलोम में से रिक्त स्थान भरिय-

राम शांत स्वभाव के थे तो लक्ष्मण -----

Options :

1. ✖ अशांत
2. ✖ गंभीर
3. ✔ उग्र
4. ✖ व्यग्र

Question Number : 167 Question Id : 54592721378 Question Type : MCQ Option Shuffling : Yes
Correct Marks : 1 Wrong Marks : 0.25

उपयुक्त विलोम में से रिक्त स्थान भरिय-

राम शांत स्वभाव के थे तो लक्ष्मण -----

Options :

1. ✖ अशांत
2. ✖ गंभीर
3. ✔ उग्र
4. ✖ व्यग्र

Question Number : 168 Question Id : 54592721379 Question Type : MCQ Option Shuffling : Yes
Correct Marks : 1 Wrong Marks : 0.25

निम्नलिखित में से अशुद्ध पर्याववाची शब्द कौन-सा है-

Options :

1. ✖ चपला
2. ✖ तडित
3. ✖ सौदा मिनी
4. ✔ वनप्रिया

Question Number : 168 Question Id : 54592721379 Question Type : MCQ Option Shuffling : Yes
Correct Marks : 1 Wrong Marks : 0.25

निम्नलिखित में से अशुद्ध पर्याववाची शब्द कौन-सा है-

Options :

1. ✖ चपला
2. ✖ तडित
3. ✖ सौदा मिनी
4. ✔ वनप्रिया

Question Number : 169 Question Id : 54592721380 Question Type : MCQ Option Shuffling : Yes
Correct Marks : 1 Wrong Marks : 0.25

क्षुद्र का विलोम शब्द क्या है-

Options :

1. ✖ युक्ति
2. ✖ पुण्य
3. ✔ महान
4. ✖ दाता

Question Number : 169 Question Id : 54592721380 Question Type : MCQ Option Shuffling : Yes
Correct Marks : 1 Wrong Marks : 0.25

क्षुद्र का विलोम शब्द क्या है-

Options :

1. ✖ युक्ति
2. ✖ पुण्य
3. ✔ महान

4. ✖ दाता

Question Number : 170 Question Id : 54592721381 Question Type : MCQ Option Shuffling : Yes

Correct Marks : 1 Wrong Marks : 0.25

'जीने की प्रबल इच्छा रखना' वाक्यांश में से दिए गये विकल्पों में से उपयुक्त शब्द चुनिए

Options :

1. ✔ जिजीविषा

2. ✖ जीविका

3. ✖ जैविक

4. ✖ जन्मांक

Question Number : 170 Question Id : 54592721381 Question Type : MCQ Option Shuffling : Yes

Correct Marks : 1 Wrong Marks : 0.25

'जीने की प्रबल इच्छा रखना' वाक्यांश में से दिए गये विकल्पों में से उपयुक्त शब्द चुनिए

Options :

1. ✔ जिजीविषा

2. ✖ जीविका

3. ✖ जैविक

4. ✖ जन्मांक

Question Number : 171 Question Id : 54592721382 Question Type : MCQ Option Shuffling : Yes

Correct Marks : 1 Wrong Marks : 0.25

नीचे दिए गए चार विकल्पों में असंगत (बेमेल) शब्द का चयन करें।

Options :

1. ✖ पार्वती

2. ✖ भवानी

3. ✖ गिरिजा

4. ✔ विष्णुपदी

Question Number : 171 Question Id : 54592721382 Question Type : MCQ Option Shuffling : Yes

Correct Marks : 1 Wrong Marks : 0.25

नीचे दिए गए चार विकल्पों में असंगत (बेमेल) शब्द का चयन करें।

Options :

1. ✖ पार्वती
2. ✖ भवानी
3. ✖ गिरिजा
4. ✓ विष्णुपदी

Question Number : 172 Question Id : 54592721383 Question Type : MCQ Option Shuffling : Yes
Correct Marks : 1 Wrong Marks : 0.25

हर्ष का विलोम शब्द है-

Options :

1. ✓ विषाद
2. ✖ विग्रह
3. ✖ विपक्ष
4. ✖ वियोग

Question Number : 172 Question Id : 54592721383 Question Type : MCQ Option Shuffling : Yes
Correct Marks : 1 Wrong Marks : 0.25

हर्ष का विलोम शब्द है-

Options :

1. ✓ विषाद
2. ✖ विग्रह
3. ✖ विपक्ष
4. ✖ वियोग

Question Number : 173 Question Id : 54592721384 Question Type : MCQ Option Shuffling : Yes
Correct Marks : 1 Wrong Marks : 0.25

निम्नलिखित में से कौन-सा एक युग्म समानार्थी है-

Options :

1. ✖ अदान-प्रदान
2. ✓ अमीर-धनवान

3. ✖ आग-पानी

4. ✖ आय-व्यय

Question Number : 173 Question Id : 54592721384 Question Type : MCQ Option Shuffling : Yes
Correct Marks : 1 Wrong Marks : 0.25

निम्नलिखित में से कौन-सा एक युग्म समानार्थी है-

Options :

1. ✖ अदान-प्रदान

2. ✔ अमीर-धनवान

3. ✖ आग-पानी

4. ✖ आय-व्यय

Question Number : 174 Question Id : 54592721385 Question Type : MCQ Option Shuffling : Yes
Correct Marks : 1 Wrong Marks : 0.25

श्रुति भिन्नार्थक शब्द का सही अर्थ विकल्प में से खोजिए-
आशंका-शंका

Options :

1. ✔ डर-संदेह

2. ✖ डर-संभावना

3. ✖ संदेह-हानि

4. ✖ डर-निंदा

Question Number : 174 Question Id : 54592721385 Question Type : MCQ Option Shuffling : Yes
Correct Marks : 1 Wrong Marks : 0.25

श्रुति भिन्नार्थक शब्द का सही अर्थ विकल्प में से खोजिए-
आशंका-शंका

Options :

1. ✔ डर-संदेह

2. ✖ डर-संभावना

3. ✖ संदेह-हानि

4. ✖ डर-निंदा

Question Number : 175 Question Id : 54592721386 Question Type : MCQ Option Shuffling : Yes
Correct Marks : 1 Wrong Marks : 0.25

अभिजात का शाब्दिक अर्थ कौन-सा है

Options :

1. ✖ अभिचार करने वाला
2. ✔ कुलीन
3. ✖ पहचान
4. ✖ अनुस्मरण

Question Number : 175 Question Id : 54592721386 Question Type : MCQ Option Shuffling : Yes
Correct Marks : 1 Wrong Marks : 0.25

अभिजात का शाब्दिक अर्थ कौन-सा है

Options :

1. ✖ अभिचार करने वाला
2. ✔ कुलीन
3. ✖ पहचान
4. ✖ अनुस्मरण

Question Number : 176 Question Id : 54592721387 Question Type : MCQ Option Shuffling : Yes
Correct Marks : 1 Wrong Marks : 0.25

निम्नलिखित वाक्य के लिए दिए गए विकल्पों में से उसके प्रकार चिन्हित कीजिए-

'वह कौन भारतीय है, जो राष्ट्रपिता महात्मा के नाम से परिचित न होगा'

Options :

1. ✖ सरल वाक्य
2. ✖ संयुक्त वाक्य
3. ✔ मिश्र वाक्य
4. ✖ उपवाक्य

Question Number : 176 Question Id : 54592721387 Question Type : MCQ Option Shuffling : Yes
Correct Marks : 1 Wrong Marks : 0.25

निम्नलिखित वाक्य के लिए दिए गए विकल्पों में से उसके प्रकार चिन्हित कीजिए-

'वह कौन भारतीय है, जो राष्ट्रपिता महात्मा के नाम से परिचित न होगा'

Options :

1. ✖ सरल वाक्य
2. ✖ संयुक्त वाक्य
3. ✔ मिश्र वाक्य
4. ✖ उपवाक्य

Question Number : 177 Question Id : 54592721388 Question Type : MCQ Option Shuffling : Yes
Correct Marks : 1 Wrong Marks : 0.25

निम्नलिखित में से कौन-सा शुद्ध वाक्य है-

Options :

1. ✖ कोयल का कंठ सबसे मधुरतम है
2. ✖ मधुरतम है कोयल का कंठ
3. ✔ कोयल का कंठ मधुरतम है
4. ✖ कंठ कोयल का मधुरतम है

Question Number : 177 Question Id : 54592721388 Question Type : MCQ Option Shuffling : Yes
Correct Marks : 1 Wrong Marks : 0.25

निम्नलिखित में से कौन-सा शुद्ध वाक्य है-

Options :

1. ✖ कोयल का कंठ सबसे मधुरतम है
2. ✖ मधुरतम है कोयल का कंठ
3. ✔ कोयल का कंठ मधुरतम है
4. ✖ कंठ कोयल का मधुरतम है

Question Number : 178 Question Id : 54592721389 Question Type : MCQ Option Shuffling : Yes
Correct Marks : 1 Wrong Marks : 0.25

निम्नलिखित में से नेता का स्त्रीलिंग क्या होगा-

Options :

1. ✖ नेताएँ
2. ✖ नेताओं
3. ✖ नेती
4. ✔ नेत्री

Question Number : 178 Question Id : 54592721389 Question Type : MCQ Option Shuffling : Yes
Correct Marks : 1 Wrong Marks : 0.25

निम्नलिखित में से नेता का स्त्रीलिंग क्या होगा-

Options :

1. ✖ नेताएँ
2. ✖ नेताओं
3. ✖ नेती
4. ✔ नेत्री

Question Number : 179 Question Id : 54592721390 Question Type : MCQ Option Shuffling : Yes
Correct Marks : 1 Wrong Marks : 0.25

निम्नलिखित वाक्य के लिए दिए गए विकल्पों में से उसके प्रकार चिन्हित कीजिए-

'उसने परीक्षा दी, किंतु उसे सफलता न मिली'

Options :

1. ✖ सरल वाक्य
2. ✖ मिश्र वाक्य
3. ✔ संयुक्त वाक्य
4. ✖ उप वाक्य

Question Number : 179 Question Id : 54592721390 Question Type : MCQ Option Shuffling : Yes
Correct Marks : 1 Wrong Marks : 0.25

निम्नलिखित वाक्य के लिए दिए गए विकल्पों में से उसके प्रकार चिन्हित कीजिए-

'उसने परीक्षा दी, किंतु उसे सफलता न मिली'

Options :

1. ✖ सरल वाक्य
2. ✖ मिश्र वाक्य
3. ✔ संयुक्त वाक्य
4. ✖ उप वाक्य

Question Number : 180 Question Id : 54592721391 Question Type : MCQ Option Shuffling : Yes
Correct Marks : 1 Wrong Marks : 0.25

निम्नलिखित में से शुद्ध वाक्य कौन-सा है-

Options :

1. ✖ ईश्वर के अनेकों रूप हैं
2. ✖ रूप ईश्वर के अनेकों हैं
3. ✖ ईश्वर रूप अनेकों हैं
4. ✔ ईश्वर के अनेक रूप हैं

Question Number : 180 Question Id : 54592721391 Question Type : MCQ Option Shuffling : Yes
Correct Marks : 1 Wrong Marks : 0.25

निम्नलिखित में से शुद्ध वाक्य कौन-सा है-

Options :

1. ✖ ईश्वर के अनेकों रूप हैं
2. ✖ रूप ईश्वर के अनेकों हैं
3. ✖ ईश्वर रूप अनेकों हैं
4. ✔ ईश्वर के अनेक रूप हैं

General Hindi2

Group Number :	10
Group Id :	5459271060
Group Maximum Duration :	0
Group Minimum Duration :	120
Show Attended Group? :	No
Edit Attended Group? :	No
Break time:	0
Group Marks:	20
Is this Group for Examiner?:	No
Revisit allowed for group Instructions? :	Yes
Maximum Instruction Time:	0
Minimum Instruction Time:	0

General Hindi2

Section Id :	5459271060
Section Number :	1
Section type :	Online
Mandatory or Optional:	Mandatory
Number of Questions:	16
Number of Questions to be attempted:	16
Section Marks:	20

Sub-Section Number:	1
Sub-Section Id:	5459271271
Question Shuffling Allowed :	Yes

Question Number : 181 Question Id : 54592721392 Question Type : MCQ Option Shuffling : Yes
Correct Marks : 1 Wrong Marks : 0.25

निम्नलिखित में से 'सत्यवान' का स्त्रीलिंग क्या होगा-

Options :

1. ✖ सत्यवादी
2. ✔ सत्यमती
3. ✖ सत्यानी
4. ✖ सत्यावाणी

Question Number : 181 Question Id : 54592721392 Question Type : MCQ Option Shuffling : Yes
Correct Marks : 1 Wrong Marks : 0.25

निम्नलिखित में से 'सत्यवान' का स्त्रीलिंग क्या होगा-

Options :

1. ✖ सत्यवादी

2. ✓ सत्यमती

3. ✖ सत्यानी

4. ✖ सत्यावाणी

Question Number : 182 Question Id : 54592721393 Question Type : MCQ Option Shuffling : Yes
Correct Marks : 1 Wrong Marks : 0.25

महादेवी वर्मा ने कविताएँ लिखी। यह वाक्य किस काल का है-

Options :

1. ✖ वर्तमानकाल

2. ✖ भविष्यकाल

3. ✖ पूर्ण काल

4. ✓ पूर्ण भूतकाल

Question Number : 182 Question Id : 54592721393 Question Type : MCQ Option Shuffling : Yes
Correct Marks : 1 Wrong Marks : 0.25

महादेवी वर्मा ने कविताएँ लिखी। यह वाक्य किस काल का है-

Options :

1. ✖ वर्तमानकाल

2. ✖ भविष्यकाल

3. ✖ पूर्ण काल

4. ✓ पूर्ण भूतकाल

Question Number : 183 Question Id : 54592721394 Question Type : MCQ Option Shuffling : Yes
Correct Marks : 1 Wrong Marks : 0.25

संतोषी सदैव सुखी रहते हैं। यह किस प्रकार का वाक्य है-

Options :

1. ✓ सरल वाक्य

2. ✖ संयुक्त वाक्य

3. ✖ प्रश्नवाचक वाक्य

4. ✖ मिश्रवाक्य

Question Number : 183 Question Id : 54592721394 Question Type : MCQ Option Shuffling : Yes

Correct Marks : 1 Wrong Marks : 0.25

संतोषी सदैव सुखी रहते हैं। यह किस प्रकार का वाक्य है-

Options :

1. ✓ सरल वाक्य
2. ✗ संयुक्त वाक्य
3. ✗ प्रश्नवाचक वाक्य
4. ✗ मिश्रवाक्य

Question Number : 184 Question Id : 54592721395 Question Type : MCQ Option Shuffling : Yes

Correct Marks : 1 Wrong Marks : 0.25

शायद कभी गन्ने खाने को मिलें
यह वाक्य किस काल का है-

Options :

1. ✗ वर्तमानकाल
2. ✓ संभाष्यभविष्यकाल
3. ✗ भूत काल
4. ✗ पूर्ण भूतकाल

Question Number : 184 Question Id : 54592721395 Question Type : MCQ Option Shuffling : Yes

Correct Marks : 1 Wrong Marks : 0.25

शायद कभी गन्ने खाने को मिलें
यह वाक्य किस काल का है-

Options :

1. ✗ वर्तमानकाल
2. ✓ संभाष्यभविष्यकाल
3. ✗ भूत काल
4. ✗ पूर्ण भूतकाल

Question Number : 185 Question Id : 54592721396 Question Type : MCQ Option Shuffling : Yes

Correct Marks : 1 Wrong Marks : 0.25

निम्नलिखित में से धेनु का बहुवचन रूप क्या होगा-

Options :

1. ✖ धेनुओं
2. ✖ गौएं
3. ✔ धेनुएँ
4. ✖ धनुएँ

Question Number : 185 Question Id : 54592721396 Question Type : MCQ Option Shuffling : Yes
Correct Marks : 1 Wrong Marks : 0.25

निम्नलिखित में से धेनु का बहुवचन रूप क्या होगा-

Options :

1. ✖ धेनुओं
2. ✖ गौएं
3. ✔ धेनुएँ
4. ✖ धनुएँ

Question Number : 186 Question Id : 54592721397 Question Type : MCQ Option Shuffling : Yes
Correct Marks : 1 Wrong Marks : 0.25

निम्नलिखित में से पक्षी का बहुवचन रूप क्या होगा-

Options :

1. ✖ पक्षियों
2. ✔ पक्षी वृन्द
3. ✖ पिक्षियों
4. ✖ पक्षियाँ

Question Number : 186 Question Id : 54592721397 Question Type : MCQ Option Shuffling : Yes
Correct Marks : 1 Wrong Marks : 0.25

निम्नलिखित में से पक्षी का बहुवचन रूप क्या होगा-

Options :

1. ✖ पक्षियों
2. ✔ पक्षी वृन्द
3. ✖ पिक्षियों

4. ✖ पक्षियाँ

Question Number : 187 Question Id : 54592721398 Question Type : MCQ Option Shuffling : Yes

Correct Marks : 1 Wrong Marks : 0.25

भवदीय का स्त्रीलिंग शब्द कौन-सा है-

Options :

1. ✔ भवदीया
2. ✖ भावदीय
3. ✖ भवादिया
4. ✖ भुवदिया

Question Number : 187 Question Id : 54592721398 Question Type : MCQ Option Shuffling : Yes

Correct Marks : 1 Wrong Marks : 0.25

भवदीय का स्त्रीलिंग शब्द कौन-सा है-

Options :

1. ✔ भवदीया
2. ✖ भावदीय
3. ✖ भवादिया
4. ✖ भुवदिया

Question Number : 188 Question Id : 54592721399 Question Type : MCQ Option Shuffling : Yes

Correct Marks : 1 Wrong Marks : 0.25

दो शब्दों को जोड़ने के लिए किस चिन्ह का प्रयोग किया जाता है-

Options :

1. ✖ निर्देशक चिन्ह
2. ✖ आदेश चिन्ह
3. ✔ योजक चिन्ह
4. ✖ विस्मयादिबोधक चिन्ह

Question Number : 188 Question Id : 54592721399 Question Type : MCQ Option Shuffling : Yes

Correct Marks : 1 Wrong Marks : 0.25

दो शब्दों को जोड़ने के लिए किस चिन्ह का प्रयोग किया जाता है-

Options :

1. ✖ निर्देशक चिन्ह
2. ✖ आदेश चिन्ह
3. ✔ योजक चिन्ह
4. ✖ विस्मयादिबोधक चिन्ह

Question Number : 189 Question Id : 54592721400 Question Type : MCQ Option Shuffling : Yes
Correct Marks : 1 Wrong Marks : 0.25

किसी बड़े शब्द को संपेक्ष में लिखने के लिए शब्द का पहला अक्षर लिखकर उसके आगे किस चिन्ह का प्रयोग होता

Options :

1. ✖ कोष्ठकचिन्ह
2. ✔ लाघवचिन्ह
3. ✖ विरामचिन्ह
4. ✖ हंस पद योजक चिन्ह

Question Number : 189 Question Id : 54592721400 Question Type : MCQ Option Shuffling : Yes
Correct Marks : 1 Wrong Marks : 0.25

किसी बड़े शब्द को संपेक्ष में लिखने के लिए शब्द का पहला अक्षर लिखकर उसके आगे किस चिन्ह का प्रयोग होता

Options :

1. ✖ कोष्ठकचिन्ह
2. ✔ लाघवचिन्ह
3. ✖ विरामचिन्ह
4. ✖ हंस पद योजक चिन्ह

Question Number : 190 Question Id : 54592721401 Question Type : MCQ Option Shuffling : Yes
Correct Marks : 1 Wrong Marks : 0.25

'आँखे फेर लेना' मुहावरे का अर्थ क्या है-

Options :

1. ✖ धोखा देना
2. ✖ अनुकूल होना

3. ✖ अनदेखा करना

4. ✔ प्रतिकूल होना

Question Number : 190 Question Id : 54592721401 Question Type : MCQ Option Shuffling : Yes
Correct Marks : 1 Wrong Marks : 0.25

'आँखे फेर लेना' मुहावरे का अर्थ क्या है-

Options :

1. ✖ धोखा देना

2. ✖ अनुकूल होना

3. ✖ अनदेखा करना

4. ✔ प्रतिकूल होना

Question Number : 191 Question Id : 54592721402 Question Type : MCQ Option Shuffling : Yes
Correct Marks : 1 Wrong Marks : 0.25

'हथेली पर सरसों' जमाना मुहावरे का अर्थ क्या है-

Options :

1. ✖ असर पड़ना

2. ✖ हार मान लेना

3. ✔ असंभव काम करना

4. ✖ पश्चाताप करना

Question Number : 191 Question Id : 54592721402 Question Type : MCQ Option Shuffling : Yes
Correct Marks : 1 Wrong Marks : 0.25

'हथेली पर सरसों' जमाना मुहावरे का अर्थ क्या है-

Options :

1. ✖ असर पड़ना

2. ✖ हार मान लेना

3. ✔ असंभव काम करना

4. ✖ पश्चाताप करना

Question Number : 192 Question Id : 54592721403 Question Type : MCQ Option Shuffling : Yes
Correct Marks : 1 Wrong Marks : 0.25

जब कोई शब्द वाक्य में लिखने से छूट जाए और उस शब्द को वाक्य के ऊपर लिखा जाए, तो ऐसे में उस शब्द की ओर संकेत करने के लिए किस विराम चिन्ह का प्रयोग किया जाता है-

Options :

1. * संक्षेप सूचक चिन्ह
2. ✓ हंसपद चिन्ह
3. * योजक चिन्ह
4. * अल्पविराम चिन्ह

Question Number : 192 Question Id : 54592721403 Question Type : MCQ Option Shuffling : Yes
Correct Marks : 1 Wrong Marks : 0.25

जब कोई शब्द वाक्य में लिखने से छूट जाए और उस शब्द को वाक्य के ऊपर लिखा जाए, तो ऐसे में उस शब्द की ओर संकेत करने के लिए किस विराम चिन्ह का प्रयोग किया जाता है-

Options :

1. * संक्षेप सूचक चिन्ह
2. ✓ हंसपद चिन्ह
3. * योजक चिन्ह
4. * अल्पविराम चिन्ह

Question Number : 193 Question Id : 54592721404 Question Type : MCQ Option Shuffling : Yes
Correct Marks : 1 Wrong Marks : 0.25

‘नया नौ दिन पुराना सौ दिन’ लोकोक्ति का अर्थ क्या है?

Options :

1. ✓ नयी वस्तु का विश्वास नहीं होना पुरानी वस्तुएँ टिकाऊ होती हैं
2. * नयी वस्तुओं में विश्वास पुरानी वस्तुएँ खराब
3. * नयी वस्तुओं में विश्वास पुरानी वस्तुओं में सौ दिन का विश्वास
4. * पुरानी वस्तुएँ टिकाऊ नहीं होती हैं

Question Number : 193 Question Id : 54592721404 Question Type : MCQ Option Shuffling : Yes
Correct Marks : 1 Wrong Marks : 0.25

‘नया नौ दिन पुराना सौ दिन’ लोकोक्ति का अर्थ क्या है?

Options :

1. ✓ नयी वस्तु का विश्वास नहीं होना पुरानी वस्तुएँ टिकाऊ होती हैं
2. ✖ नयी वस्तुओंमें विश्वास पुरानी वस्तुएँ खराब
3. ✖ नयी वस्तुओं में विश्वास पुरानी वस्तुओं में सौ दिन का विश्वास
4. ✖ पुरानी वस्तुएँ टिकाऊ नहीं होती हैं

Question Number : 194 Question Id : 54592721405 Question Type : MCQ Option Shuffling : Yes
Correct Marks : 1 Wrong Marks : 0.25

‘टोपी उछालना’ मुहावरे का अर्थ क्या है-

Options :

1. ✖ सम्मानित करना
2. ✓ अपमानित करना
3. ✖ बहाने बनाना
4. ✖ शेखियाँ जमाना

Question Number : 194 Question Id : 54592721405 Question Type : MCQ Option Shuffling : Yes
Correct Marks : 1 Wrong Marks : 0.25

‘टोपी उछालना’ मुहावरे का अर्थ क्या है-

Options :

1. ✖ सम्मानित करना
2. ✓ अपमानित करना
3. ✖ बहाने बनाना
4. ✖ शेखियाँ जमाना

Question Number : 195 Question Id : 54592721406 Question Type : MCQ Option Shuffling : Yes
Correct Marks : 1 Wrong Marks : 0.25

घर जोगी जोगड़ा आन गाँव का सिद्ध लोकोक्ति का अर्थ क्या है-

Options :

1. ✓ स्वयं के निवास पर सम्मान नहीं मिलता
2. ✖ दूसरे गाँव में सम्मान नहीं मिलता

3. ✖ स्वयं के निवास में सम्मान मिलता है
4. ✖ स्वयं व दूसरे गाँव में सम्मान नहीं मिलता

Question Number : 195 Question Id : 54592721406 Question Type : MCQ Option Shuffling : Yes
Correct Marks : 1 Wrong Marks : 0.25

घर जोगी जोगड़ा आन गाँव का सिद्ध लोकोक्ति का अर्थ क्या है-

Options :

1. ✔ स्वयं के निवास पर सम्मान नहीं मिलता
2. ✖ दूसरे गाँव में सम्मान नहीं मिलता
3. ✖ स्वयं के निवास में सम्मान मिलता है
4. ✖ स्वयं व दूसरे गाँव में सम्मान नहीं मिलता

Sub-Section Number: 2
Sub-Section Id: 5459271272
Question Shuffling Allowed : Yes

Question Id : 54592721407 Question Type : COMPREHENSION Sub Question Shuffling Allowed : Yes Group Comprehension
Questions : No
Question Numbers : (196 to 200)

Question Label : Comprehension

निर्देश: नीचे लिखे अपठित गद्यांश को पढ़िए और प्रश्न का उत्तर दीजिए।

“मैं अत्यंत विनम्रता से यह निवेदन करना चाहता हूँ कि मनुष्य को वही होने दें जो कि होने को वह पैदा हुआ है। गुलाब, गुलाब है, और चमेली, चमेली, और जूही-जूही। कोई किसी से न छोटा है, न बड़ा है। गुलाब को चमेली नहीं होना है और चमेली को जूही नहीं होना है। यह छोटे-बड़े और ऊँचे-नीचे का मूल्यांकन एकदम झूठा और बेइंदा है। इस मूल्यांकन को नष्ट करें। कवि चमार से बड़ा नहीं होता है और न ही राजनेता किसी से बड़ा है। एक अध्यापक राष्ट्रपति होने से बड़ा नहीं हो जाता है। जीवन एक सहयोग है। उसमें सबका अपना-अपना स्थान होता है और सबकी आवश्यकता है और अनिवार्यता है। कार्यों के साथ पद और प्रतिष्ठा जोड़ने से सारी दुनियाँ जिस महत्वाकांक्षा की विक्षिप्ता में पड़ गई है क्या यह आपको दिखाई नहीं पड़ रही है”?

यह महत्वपूर्ण है कि गुलाब को जूही होने का उपदेश दिया जाए या कि घास के फूल को कमल होने के लिए उकसाया जाए। अर्थपूर्ण बात इतनी ही है कि गुलाब पूरा विकसित हो और घास का फूल भी पूरा विकसित हो। उनकी पंखुड़ियाँ अविकसित न रह जाएँ और उनकी स्वास उनमें ही बंद न रह जाए। स्वयं की संभावनाएँ पूरी विकसित हो, इसके अतिरिक्त जीवन का ओर कोई आनंद नहीं है और शिक्षा के कार्य की सम्यक दिशा यही है।

उपरोक्त गद्यांश के अनुसार मनुष्य को क्या बनना चाहिए-

Sub questions

Question Number : 196 Question Id : 54592721408 Question Type : MCQ Option Shuffling : Yes
Correct Marks : 1 Wrong Marks : 0.25

उपरोक्त गद्यांश के अनुसार मनुष्य को क्या बनना चाहिए।

Options :

1. ✓ अपने स्वभाव और गुणों का विकास करना चाहिए
2. ✗ महान बनना चाहिए
3. ✗ सर्वोत्तम बनना चाहिए
4. ✗ सबके लिए आदर्श बनना चाहिए

Question Number : 197 Question Id : 54592721409 Question Type : MCQ Option Shuffling : Yes
Correct Marks : 1 Wrong Marks : 0.25

उपरोक्त गद्यांश के अनुसार गुलाब को जूही बनाने में क्या व्यंग है?

Options :

1. * दूसरों की नकल करना
2. * दूसरों से प्रभावित होना
3. * अपने स्वरूप को त्यागना
4. ✓ अपना स्वरूप त्यागकर दूसरों के पीछे भागना

Question Number : 198 Question Id : 54592721410 Question Type : MCQ Option Shuffling : Yes

Correct Marks : 1 Wrong Marks : 0.25

उपरोक्त गद्यांश के अनुसार महत्व का पागलपन क्यों बढ़ रहा है?

Options :

1. * पद और प्रतिष्ठा के कारण
2. * ऊँच-नीच होने के कारण
3. ✓ कामों को ऊँचा-नीचा मानने के कारण
4. * प्रतिष्ठा के कारण

Question Number : 199 Question Id : 54592721411 Question Type : MCQ Option Shuffling : Yes

Correct Marks : 1 Wrong Marks : 0.25

उपरोक्त गद्यांश के अनुसार मूल्यांकन का सही अर्थ क्या है?

Options :

1. * निर्णय
2. * न्याय
3. ✓ आकलन
4. * परीक्षा

Question Number : 200 Question Id : 54592721412 Question Type : MCQ Option Shuffling : Yes

Correct Marks : 1 Wrong Marks : 0.25

उपरोक्त गद्यांश के अनुसार गद्यांश का क्या शीर्षक उचित है?

Options :

1. * जीवन का स्वरूप
2. ✓ जीवन का आत्मविकास
3. * सारा जग है एक समान
4. * ऊँच-नीच की अर्थता

Question Id : 54592721407 Question Type : COMPREHENSION Sub Question Shuffling Allowed : Yes Group Comprehension Questions : No
Question Numbers : (196 to 200)

Question Label : Comprehension



निर्देश: नीचे लिखे अपठित गद्यांश को पढ़िए और प्रश्न का उत्तर दीजिए।

“मैं अत्यंत विनम्रता से यह निवेदन करना चाहता हूँ कि मनुष्य को वही होने दें जो कि होने को वह पैदा हुआ है। गुलाब, गुलाब है, और चमेली, चमेली, और जूही-जूही। कोई किसी से न छोटा है, न बड़ा है। गुलाब को चमेली नहीं होना है और चमेली को जूही नहीं होना है। यह छोटे-बड़े और ऊँचे-नीचे का मूल्यांकन एकदम झूठा और बेइदा है। इस मूल्यांकन को नष्ट करें। कवि चमार से बड़ा नहीं होता है और न ही राजनेता किसी से बड़ा है। एक अध्यापक राष्ट्रपति होने से बड़ा नहीं होता जाता है। जीवन एक सहयोग है। उसमें सबका अपना-अपना स्थान होता है और सबकी आवश्यकता है और अनिवार्यता है। कार्यों के साथ पद और प्रतिष्ठा जोड़ने से सारी दुनियाँ जिस महत्वकांक्षा की विक्षिप्ता में पड़ गई है क्या यह आपको दिखाई नहीं पड़ रही है”?

यह महत्वपूर्ण है कि गुलाब को जूही होने का उपदेश दिया जाए या कि घास के फूल को कमल होने के लिए उकसाया जाए। अर्थपूर्ण बात इतनी ही है कि गुलाब पूरा विकसित हो और घास का फूल भी पूरा विकसित हो। उनकी पँखुड़ियाँ अविकसित न रह जाएँ और उनकी स्वास उनमें ही बंद न रह जाए। स्वयं की संभावनाएँ पूरी विकसित हो, इसके अतिरिक्त जीवन का ओर कोई आनंद नहीं है और शिक्षा के कार्य की सम्यक दिशा यही है।

उपरोक्त गद्यांश के अनुसार मनुष्य को क्या बनना चाहिए-

Question Number : 196 Question Id : 54592721408 Question Type : MCQ Option Shuffling : Yes
Correct Marks : 1 Wrong Marks : 0.25

उपरोक्त गद्यांश के अनुसार मनुष्य को क्या बनना चाहिए।

Options :

1. ✓ अपने स्वभाव और गुणों का विकास करना चाहिए
2. ✖ महान बनना चाहिए
3. ✖ सर्वोत्तम बनना चाहिए
4. ✖ सबके लिए आदर्श बनना चाहिए

Question Number : 197 Question Id : 54592721409 Question Type : MCQ Option Shuffling : Yes
Correct Marks : 1 Wrong Marks : 0.25

उपरोक्त गद्यांश के अनुसार गुलाब को जूही बनाने में क्या व्यंग है?

Options :

1. ✖ दूसरों की नकल करना
2. ✖ दूसरों से प्रभावित होना
3. ✖ अपने स्वरूप को त्यागना
4. ✓ अपना स्वरूप त्यागकर दूसरों के पीछे भागना

Question Number : 198 Question Id : 54592721410 Question Type : MCQ Option Shuffling : Yes
Correct Marks : 1 Wrong Marks : 0.25

उपरोक्त गद्यांश के अनुसार महत्व का पागलपन क्यों बढ़ रहा है?

Options :

1. ✖ पद और प्रतिष्ठा के कारण
2. ✖ ऊँच-नीच होने के कारण
3. ✓ कामों को ऊँचा-नीचा मानने के कारण
4. ✖ प्रतिष्ठा के कारण

Question Number : 199 Question Id : 54592721411 Question Type : MCQ Option Shuffling : Yes
Correct Marks : 1 Wrong Marks : 0.25

उपरोक्त गद्यांश के अनुसार मूल्यांकन का सही अर्थ क्या है?

Options :

1. ✖ निर्णय
2. ✖ न्याय
3. ✔ आकलन
4. ✖ परीक्षा

Question Number : 200 Question Id : 54592721412 Question Type : MCQ Option Shuffling : Yes

Correct Marks : 1 Wrong Marks : 0.25

उपरोक्त गद्यांश के अनुसार गद्यांश का क्या शीर्षक उचित है?

Options :

1. ✖ जीवन का स्वरूप
2. ✔ जीवन का आत्मविकास
3. ✖ सारा जग है एक समान
4. ✖ ऊँच-नीच की अर्थता