

**DSSSB**  
**Jr Assistant**  
**Previous Year Paper**  
**03 Sept, 2019 Shift 1**



Adda247

Test Prime

ALL EXAMS, ONE SUBSCRIPTION



**1,00,000+**  
Mock Tests



Personalised  
Report Card



Unlimited  
Re-Attempt



**600+**  
Exam Covered



**25,000+** Previous  
Year Papers



**500%**  
Refund



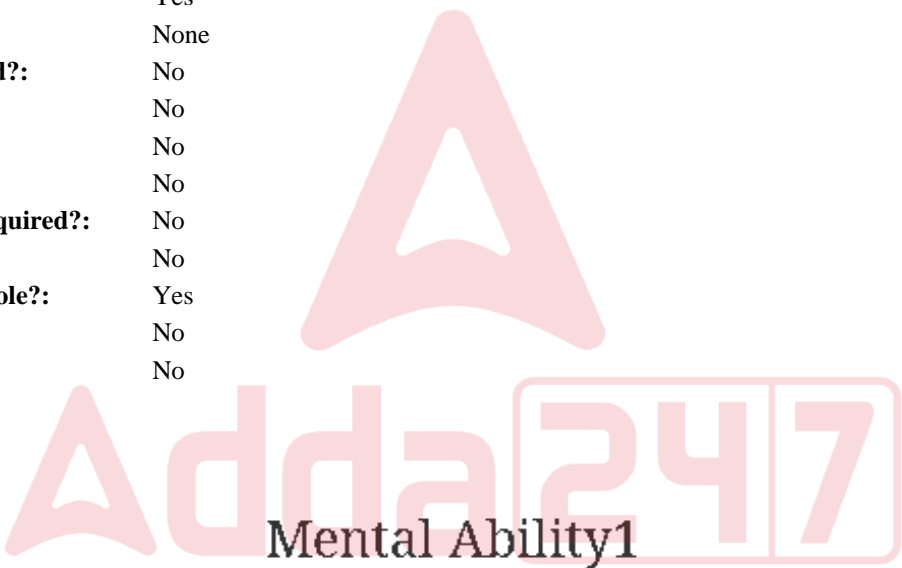
**ATTEMPT FREE MOCK NOW**

Education Consultant India Ltd.

Notations :

- 1.Options shown in green color and with ✓ icon are correct.
- 2.Options shown in red color and with ✖ icon are incorrect.

Question Paper Name:	Grade IV DASS Junior Assistant 03rd September 2019 Shift 1
Subject Name:	GRADE IV DASS JUNIOR ASSISTANT
Creation Date:	2019-09-03 12:51:04
Duration:	120
Total Marks:	200
Display Marks:	Yes
Share Answer Key With Delivery Engine:	No
Actual Answer Key:	Yes
Calculator:	None
Magnifying Glass Required?:	No
Ruler Required?:	No
Eraser Required?:	No
Scratch Pad Required?:	No
Rough Sketch/Notepad Required?:	No
Protractor Required?:	No
Show Watermark on Console?:	Yes
Highlighter:	No
Auto Save on Console?:	No



Group Number :	1
Group Id :	5459271091
Group Maximum Duration :	0
Group Minimum Duration :	0
Show Attended Group? :	No
Edit Attended Group? :	No
Break time:	0
Group Marks:	20
Is this Group for Examiner?:	No
Revisit allowed for group Instructions? :	Yes
Maximum Instruction Time:	0
Minimum Instruction Time:	0

Mental Ability1

Section Id :	5459271091
Section Number :	1

Section type :	Online
Mandatory or Optional:	Mandatory
Number of Questions:	20
Number of Questions to be attempted:	20
Section Marks:	20

Sub-Section Number:	1
Sub-Section Id:	5459271309
Question Shuffling Allowed :	Yes

Question Number : 1 Question Id : 54592722019 Question Type : MCQ Option Shuffling : Yes  
Correct Marks : 1 Wrong Marks : 0.25

**DIRECTIONS:** From the given responses, find the missing letter in the series.

LO TW BE ??

Options :

1. ✖ IL
2. ✖ IT
3. ✖ HL
4. ✔ JM

Question Number : 1 Question Id : 54592722019 Question Type : MCQ Option Shuffling : Yes  
Correct Marks : 1 Wrong Marks : 0.25

निर्देश: दिए गए विकल्पों में से श्रेणी में लुप्त अक्षर को ज्ञात करें:

LO TW BE ??

Options :

1. ✖ IL
2. ✖ IT
3. ✖ HL
4. ✔ JM

Question Number : 2 Question Id : 54592722020 Question Type : MCQ Option Shuffling : Yes

Correct Marks : 1 Wrong Marks : 0.25

Find out the next term.

A5D, F15I, K25N, ?

Options :

1. ✖ N445U

2. ✖ L44P

3. ✔ P35S

4. ✖ M441P

Question Number : 2 Question Id : 54592722020 Question Type : MCQ Option Shuffling : Yes

Correct Marks : 1 Wrong Marks : 0.25

अगला पद ज्ञात करें

A5D, F15I, K25N, ?

Options :

1. ✖ N445U

2. ✖ L44P

3. ✔ P35S

4. ✖ M441P

Question Number : 3 Question Id : 54592722021 Question Type : MCQ Option Shuffling : Yes

Correct Marks : 1 Wrong Marks : 0.25

Find the wrong term in the series?

AD,BH,CL,DP,ET

Note: For this question, discrepancy is found in question/answer. So,this question is ignored for all candidates.

Options :

1. AD

2. BH

3. DP

4. CL

Question Number : 3 Question Id : 54592722021 Question Type : MCQ Option Shuffling : Yes  
Correct Marks : 1 Wrong Marks : 0.25

श्रृंखला में गलत पद खोजें?

AD, BH,CL,DP,ET

Note: For this question, discrepancy is found in question/answer. So, this question is ignored for all candidates.

Options :

1. AD

2. BH

3. DP

4. CL

Question Number : 4 Question Id : 54592722022 Question Type : MCQ Option Shuffling : Yes  
Correct Marks : 1 Wrong Marks : 0.25

Find the odd one out from the given alternatives.

Options :

1. ✖ Father

2. ✖ Mother

3. ✖ Sister

4. ✔ Mother-in-law

Question Number : 4 Question Id : 54592722022 Question Type : MCQ Option Shuffling : Yes  
Correct Marks : 1 Wrong Marks : 0.25

दिए गए विकल्पों में से विषम ज्ञात करें।

Options :

1. ✖ पिता

2. ✖ माता

3. ✖ बहन

4. ✔ सास

Question Number : 5 Question Id : 54592722023 Question Type : MCQ Option Shuffling : Yes  
Correct Marks : 1 Wrong Marks : 0.25

Choose the odd one from the given alternatives.

Options :

1. ✖ FH

2. ✖ QS

3. ✖ LN

4. ✔ TR

Question Number : 5 Question Id : 54592722023 Question Type : MCQ Option Shuffling : Yes  
Correct Marks : 1 Wrong Marks : 0.25

दिए गए विकल्पों से विषम को चुनें।

Options :

1. ✖ FH

2. ✖ QS

3. ✖ LN

4. ✔ TR

Question Number : 6 Question Id : 54592722024 Question Type : MCQ Option Shuffling : Yes  
Correct Marks : 1 Wrong Marks : 0.25

Choose or find odd pair of words:

Options :

1. ✖ (Bowling : Cricket)

2. ✖ (Goalkeeper : Football)

3. ✖ (Libero : Volleyball)

4. ✔ ( Point Guard : Hockey)

Question Number : 6 Question Id : 54592722024 Question Type : MCQ Option Shuffling : Yes  
Correct Marks : 1 Wrong Marks : 0.25

दिए गए विकल्पों में से विषम जोड़ी ज्ञात करें।

Options :

1. ✖ (बॉलिंग : क्रिकेट)
2. ✖ (गोलकीपर : फुटबॉल)
3. ✖ (लिबरो : वॉलीबॉल)
4. ✔ (पॉइंट गार्ड : हॉकी)

Question Number : 7 Question Id : 54592722025 Question Type : MCQ Option Shuffling : Yes  
Correct Marks : 1 Wrong Marks : 0.25

**DIRECTION:** From the pairs of words you are to select the pair which is related in the same way as the words of the first pair.

FOOD : HUNGER :: WATER : \_\_\_\_\_

Options :

1. ✖ Rest
2. ✖ Night
3. ✔ Thirsty
4. ✖ Bed

Question Number : 7 Question Id : 54592722025 Question Type : MCQ Option Shuffling : Yes  
Correct Marks : 1 Wrong Marks : 0.25

निर्देश: निम्नलिखित प्रश्न में दिए गए विकल्पों में से संबंधित शब्दों को चुनिए।

भोजन : भूख :: पानी : \_\_\_\_\_

Options :

1. ✖ आराम
2. ✖ रात
3. ✔ प्यास

## 4. ✖ बिस्तर

Question Number : 8 Question Id : 54592722026 Question Type : MCQ Option Shuffling : Yes

Correct Marks : 1 Wrong Marks : 0.25

**DIRECTION:** In the following question, select the related letter/word/number from the given alternatives.

COMB : HAIR :: \_\_\_\_\_ : \_\_\_\_\_

Options :

1. ✖ Surgery : pain
2. ✔ Knife : vegetables
3. ✖ Book : author
4. ✖ Cup : saucer

Question Number : 8 Question Id : 54592722026 Question Type : MCQ Option Shuffling : Yes

Correct Marks : 1 Wrong Marks : 0.25

**निर्देश:** निम्नलिखित प्रश्न में दिए गए विकल्पों में से संबंधित शब्दों को चुनिए।

कंघी : बाल :: \_\_\_\_\_ : \_\_\_\_\_

Options :

1. ✖ शल्यचिकित्सा (सर्जरी) : दर्द
2. ✔ चाकू : सब्जियां
3. ✖ पुस्तक : लेखक
4. ✖ कप : तश्तरी

Question Number : 9 Question Id : 54592722027 Question Type : MCQ Option Shuffling : Yes

Correct Marks : 1 Wrong Marks : 0.25

DIRECTION: In the following question, select the related letter/word/number from the given alternatives.

DAC : EBD :: HEG : \_\_\_\_\_

Options :

1. ✖ KIH
2. ✖ JFH
3. ✖ IHF
4. ✔ IFH

Question Number : 9 Question Id : 54592722027 Question Type : MCQ Option Shuffling : Yes  
Correct Marks : 1 Wrong Marks : 0.25

निर्देश: निम्नलिखित प्रश्न में दिए गए विकल्पों में से सम्बन्धित अक्षर/शब्द/संख्या को चुनिए।

DAC : EBD :: HEG : \_\_\_\_\_

Options :

1. ✖ KIH
2. ✖ JFH
3. ✖ IHF
4. ✔ IFH

Question Number : 10 Question Id : 54592722028 Question Type : MCQ Option Shuffling : Yes  
Correct Marks : 1 Wrong Marks : 0.25

In a certain code language, if the word GOLDEN is coded as GLEODN, then how is the word PLATINUM coded in that language?

Options :

1. ✖ PAUILTNM

- 2. ✖ LAIULTNM
- 3. ✖ PALUITNM
- 4. ✔ PAIULTNM

Question Number : 10 Question Id : 54592722028 Question Type : MCQ Option Shuffling : Yes  
Correct Marks : 1 Wrong Marks : 0.25

एक निश्चित कूट भाषा में, यदि GOLDEN शब्द को GLEODN के रूप में कोडित किया जाता है, तो उस भाषा में PLATINUM शब्द को कैसे कोडित किया जायेगा?

Options :

- 1. ✖ PAUILTNM
- 2. ✖ LAIULTNM
- 3. ✖ PALUITNM
- 4. ✔ PAIULTNM

Question Number : 11 Question Id : 54592722029 Question Type : MCQ Option Shuffling : Yes  
Correct Marks : 1 Wrong Marks : 0.25

In a certain code language, if Drama is called as Green, Green is called as Time, Time is called as Yoga, Yoga is called as Team, Team is called as Cricket, Cricket is called as Bat and Bat is called as Crowd, then what is the colour of grass in that language?

Options :

- 1. ✖ Drama
- 2. ✖ Cricket
- 3. ✔ Time
- 4. ✖ Crowd

Question Number : 11 Question Id : 54592722029 Question Type : MCQ Option Shuffling : Yes  
Correct Marks : 1 Wrong Marks : 0.25

एक निश्चित कोड भाषा में, यदि नाटक को ग्रीन कहा जाता है, ग्रीन को समय कहा जाता है, समय को योग कहा जाता है, योग को टीम कहा जाता है, टीम को क्रिकेट कहा जाता है, क्रिकेट को बैट कहा जाता है और बैट को भीड़ कहा जाता है, फिर उस भाषा में घास का रंग क्या है?

Options :

1. ✖ नाटक
2. ✖ क्रिकेट
3. ✔ समय
4. ✖ भीड़

Question Number : 12 Question Id : 54592722030 Question Type : MCQ Option Shuffling : Yes  
Correct Marks : 1 Wrong Marks : 0.25

For the following groups of letters given in Column I, the codes are given in Column II. Answer the question by finding the codes for the groups from the given columns.

Column I	Column II
(A) kill dog cat	Y Z X
(B) tape Kill mat cat	X E Z V
(C) kill mat jeep tiger	X V W A

What is the code for kill?

Options :

1. ✖ V
2. ✔ X
3. ✖ Z
4. ✖ W

Question Number : 12 Question Id : 54592722030 Question Type : MCQ Option Shuffling : Yes  
Correct Marks : 1 Wrong Marks : 0.25

कॉलम I में दिए गए अक्षरों के निम्नलिखित समूहों के लिए, कॉलम II में कूट दिए गए हैं। दिए गए कॉलम से समूहों के लिए कूट ढूँढकर प्रश्न का उत्तर दें।

Column I	Column II
(A) kill dog cat	Y Z X
(B) tape Kill mat cat	X E Z V
(C) kill mat jeep tiger	X V W A

KIL के लिए कूट क्या है?

Options :

- ✗ V
- ✓ X
- ✗ Z
- ✗ W

Question Number : 13 Question Id : 54592722031 Question Type : MCQ Option Shuffling : Yes  
Correct Marks : 1 Wrong Marks : 0.25

Eight friends Kajal, Sneha, Pooja, Anjum, Ram, Priya, Pranjali and Jivan are seated in a straight line, facing North, but not necessarily in the same order. Jivan sits at the extreme right end of the line. Only four people sit between Jivan and Sneha. Both Kajal and Pooja are immediate neighbours of Sneha. Only two people sit between Pooja and Pranjali. Pranjali is not an immediate neighbour of Jivan. Anjum sits second to left of Priya.

Who amongst the following sit exactly between Pooja and Pranjali?

Options :

1. ✖ Priya, Jivan
2. ✖ Anjum, Ram
3. ✔ Kajal, Sneha
4. ✖ Anjum, Kajal

Question Number : 13 Question Id : 54592722031 Question Type : MCQ Option Shuffling : Yes  
Correct Marks : 1 Wrong Marks : 0.25

आठ दोस्त काजल, स्नेहा, पूजा, अंजुम, राम, प्रिया, प्रांजलि और जीवन को एक सीधी रेखा में उत्तर की ओर मुख करके बैठाया गया है, लेकिन जरूरी नहीं कि उसी क्रम में हो। जीवन रेखा के बिल्कुल दाहिने छोर पर बैठा है। जीवन और स्नेहा के बीच केवल चार लोग बैठे हैं। काजल और पूजा दोनों स्नेहा के निकटतम पड़ोसी हैं। पूजा और प्रांजलि के बीच केवल दो लोग बैठे हैं। प्रांजलि, जीवन की तुरंत पड़ोसी नहीं है। अंजुम, प्रिया के बाएं से दूसरे स्थान पर बैठी है।

निम्नलिखित में से कौन पूजा और प्रांजलि के बीच वास्तव में बैठते हैं?

Options :

1. ✖ प्रिया, जीवन
2. ✖ अंजुम, राम
3. ✔ काजल, स्नेहा
4. ✖ अंजुम, काजल

Question Number : 14 Question Id : 54592722032 Question Type : MCQ Option Shuffling : Yes  
Correct Marks : 1 Wrong Marks : 0.25

More heavy the Balls more costlier they are. Rahul's Ball is heavier than Virat's and costlier than Rohit's. Dhoni's ball is costlier than Rahul's but lighter than Kedhar's. Rohit's ball is costlier than Virat's. So who is the owner of the costliest ball?

Options :

1. ✖ Virat
2. ✖ Rahul
3. ✔ Kedhar
4. ✖ Rohit

Question Number : 14 Question Id : 54592722032 Question Type : MCQ Option Shuffling : Yes  
Correct Marks : 1 Wrong Marks : 0.25

जितनी ज्यादा भारी गेंद उतनी ही महंगी भी होगी। राहुल की गेंद विराट की तुलना में भारी और रोहित की तुलना में महंगी है। धोनी की गेंद राहुल की तुलना में महंगी है, लेकिन केदार की तुलना में हल्की है। रोहित की गेंद विराट की तुलना में महंगी है। तो सबसे महंगी गेंद का मालिक कौन है?

Options :

1. ✖ विराट
2. ✖ राहुल
3. ✔ केदार
4. ✖ रोहित

Question Number : 15 Question Id : 54592722033 Question Type : MCQ Option Shuffling : Yes  
Correct Marks : 1 Wrong Marks : 0.25

A five members research group is to be chosen from the Cricketers Nitesh, Arun, Aditya and Mohseen and the Boxers Priya, Neha, Simran and Kiran. At least 3 cricketers must be in the group. However:

- (i) Nitesh refuses to work with Mohseen.
- (ii) Arun refuses to work with priya.
- (iii) Neha refuses to work with Simran.
- (iv) Mohseen refuses to work with Neha.

If Arun is chosen, who else would have to be definitely in the group?

Options :

- 1. ✖ Neha
- 2. ✖ Simran
- 3. ✖ Nitesh
- 4. ✔ Aditya

Question Number : 15 Question Id : 54592722033 Question Type : MCQ Option Shuffling : Yes  
Correct Marks : 1 Wrong Marks : 0.25

क्रिकेटर्स: नितेश, अरुण, आदित्य और मोहसिन तथा बॉक्सर्स: प्रिया, नेहा, सिमरन और किरण में से पांच सदस्यीय का अनुसंधान समूह चुना जाना है। समूह में कम से कम 3 क्रिकेटर होने चाहिए। हालाँकि:

- (i) नितेश ने मोहसिन के साथ काम करने से इंकार कर दिया।
- (ii) अरुण ने प्रिया के साथ काम करने से इंकार कर दिया।
- (iii) नेहा ने सिमरन के साथ काम करने से इंकार कर दिया।
- (iv) मोहसिन ने नेहा के साथ काम करने से इंकार कर दिया।

यदि अरुण को चुना जाता है, तो समूह में और कौन निश्चित रूप से होगा?

Options :

- 1. ✖ नेहा
- 2. ✖ सिमरन
- 3. ✖ नितेश
- 4. ✔ आदित्य

Question Number : 16 Question Id : 54592722034 Question Type : MCQ Option Shuffling : Yes

Correct Marks : 1 Wrong Marks : 0.25

Sagar is ranked thirty fourth from the bottom in a class and seventh from the top . How many students are there in this class?

Options :

- 1. ✖ 39
- 2. ✔ 40
- 3. ✖ 41
- 4. ✖ 42

Question Number : 16 Question Id : 54592722034 Question Type : MCQ Option Shuffling : Yes  
Correct Marks : 1 Wrong Marks : 0.25

सागर एक कक्षा में नीचे से चौंतीसवें स्थान पर और ऊपर से सातवें स्थान पर है। इस कक्षा में कितने छात्र हैं?

Options :

1. ✖ 39
2. ✔ 40
3. ✖ 41
4. ✖ 42

Question Number : 17 Question Id : 54592722035 Question Type : MCQ Option Shuffling : Yes  
Correct Marks : 1 Wrong Marks : 0.25

There are eight girls A to H who need to go for dance sessions in two batches of four girls each. Following are the criteria:

- (1) B and H have to go together
- (2) D and F do not go together
- (3) A and C never go together

If B and C go in the first batch, then who of the following can be in the second batch?

Options :

1. ✖ A, D, H and G
2. ✖ A, C, E and G
3. ✔ A, D, E and G
4. ✖ A, D, F and G

Question Number : 17 Question Id : 54592722035 Question Type : MCQ Option Shuffling : Yes  
Correct Marks : 1 Wrong Marks : 0.25

आठ लड़कियां A से H को चार लड़कियों के दो बैचों में नृत्य सत्रों के लिए जाना है। निम्नलिखित मानदंड हैं:

- (1) B और H को एक साथ जाना है।
- (2) D और F को एक साथ नहीं जाना है।
- (3) A और C कभी साथ नहीं जाते हैं।

यदि B और C पहले बैच में जाते हैं, तो निम्न में से कौन सा दूसरा बैच में हो सकता है?

Options :

1. ✖ A, D, H और G
2. ✖ A, C, E और G
3. ✔ A, D, E और G
4. ✖ A, D, F और G

Question Number : 18 Question Id : 54592722036 Question Type : MCQ Option Shuffling : Yes  
Correct Marks : 1 Wrong Marks : 0.25

Directions: In the question below, there are three statements followed by two conclusions. You have to take the given statements to be true even if they seem to be at variance with commonly known facts and then decide which of the given conclusion logically follow(s) from the given statements.

Statements:

- I. All reds are whites.
- II. All whites are oranges.
- III. All blues are reds.

Conclusion:

- I. All whites are reds.
- II. All reds are oranges.

Options :

- 1. ✖ Only conclusion I follows
- 2. ✔ Only conclusion II follows
- 3. ✖ Either conclusion I or II follows
- 4. ✖ Neither conclusion follows

Question Number : 18 Question Id : 54592722036 Question Type : MCQ Option Shuffling : Yes  
Correct Marks : 1 Wrong Marks : 0.25

निर्देश: नीचे दिए गए प्रश्न में तीन कथन और उसके बाद दो निष्कर्ष दिए गए हैं। आपको दिए गए कथनों को सत्य मानना है भले ही वे सर्वज्ञात तथ्यों से भिन्न प्रतीत होते हों। सभी निष्कर्षों को पढ़िए फिर तय कीजिए कि दिए गए निष्कर्षों में से कौन सा तर्कसंगत रूप से अनुसरण करता है, चाहे सर्वज्ञात तथ्य कुछ भी हों।

कथन:

- I. सभी लाल, सफेद हैं।
- II. सभी सफेद, नारंगी हैं।
- III. सभी नीले, लाल हैं।

निष्कर्ष:

- I. सभी सफेद, लाल हैं।
- II. सभी लाल, नारंगी हैं।

Options :

1. ✖ यदि केवल निष्कर्ष I सत्य है
2. ✔ यदि केवल निष्कर्ष II सत्य है
3. ✖ यदि या निष्कर्ष I या II सत्य है
4. ✖ यदि न ही निष्कर्ष I न II सत्य है

Question Number : 19 Question Id : 54592722037 Question Type : MCQ Option Shuffling : Yes

Correct Marks : 1 Wrong Marks : 0.25

In the following question, there is a statement followed by two courses of action, numbered I and II. You have to assume everything in the statement to be true to decide which of the two suggested courses of action logically follows for pursuing Statement:

Air pollution in India is reaching alarming levels.

Course of actions:

I. Ban use of insecticides.

II. Institute a high level committee to find persons involved in polluting India.

Options :

1. ✖ Only I follows
2. ✖ Only II follows
3. ✖ Either I or II follows
4. ✔ Neither I nor II follows

Question Number : 19 Question Id : 54592722037 Question Type : MCQ Option Shuffling : Yes  
Correct Marks : 1 Wrong Marks : 0.25

निम्नलिखित प्रश्न में, एक कथन के बाद दो कार्यवाही । और ॥ है। आपको इस कथन को सत्य मान कर तय करना है कि दी गयी दो कार्यवाही में से कौन सा तार्किक रूप से सही है।

कथन :

भारत में वायु प्रदूषण खतरे के स्तर तक पहुंच रहा है।

कार्यवाहियां:

- I. कीटनाशकों का प्रतिबंध।
- II. भारत को प्रदूषित करने वाले व्यक्तियों को खोजने के लिए एक उच्च स्तरीय समिति का गठन करें।

Options :

1. ✖ केवल निष्कर्ष I अनुसरण करता है
2. ✖ केवल निष्कर्ष II अनुसरण करता है
3. ✖ निष्कर्ष I या II अनुसरण करता है
4. ✔ कोई भी निष्कर्ष अनुसरण नहीं करता

Question Number : 20 Question Id : 54592722038 Question Type : MCQ Option Shuffling : Yes

Correct Marks : 1 Wrong Marks : 0.25

Select the option that will come in place of question mark and complete the below series. This term is given as one of the alternatives. Mark the correct alternative.

280,271,264,259 ,?

Options :

1. ✖ 125
2. ✖ 252

3. ✓ 256

4. ✗ 250

Question Number : 20 Question Id : 54592722038 Question Type : MCQ Option Shuffling : Yes  
Correct Marks : 1 Wrong Marks : 0.25

नीचे दिए गए निम्नलिखित प्रश्न में, वह विकल्प चुने जो प्रश्नचिह्न की जगह आ कर नीचे दी गई श्रृंखला को पूरा करेगा। यह प्रश्न चिह्न विकल्प के रूप में दिया गया है। सही विकल्प को ज्ञात कीजिए।

280,271,264,259 ,?

Options :

1. ✗ 125

2. ✗ 252

3. ✓ 256

4. ✗ 250

Group Number :	2
Group Id :	5459271092
Group Maximum Duration :	0
Group Minimum Duration :	0
Show Attended Group? :	No
Edit Attended Group? :	No
Break time:	0
Group Marks:	20
Is this Group for Examiner?:	No
Revisit allowed for group Instructions? :	Yes
Maximum Instruction Time:	0
Minimum Instruction Time:	0

Mental Ability2

Section Id :	5459271092
Section Number :	1
Section type :	Online

Mandatory or Optional:	Mandatory
Number of Questions:	20
Number of Questions to be attempted:	20
Section Marks:	20

Sub-Section Number:	1
Sub-Section Id:	5459271310
Question Shuffling Allowed :	Yes

Question Number : 21 Question Id : 54592722039 Question Type : MCQ Option Shuffling : Yes  
Correct Marks : 1 Wrong Marks : 0.25

In the following question, one number is wrong in the series.  
Find out the wrong number.

2, 10, 34, 105, 322

Options :

1. ✓ 105
2. ✗ 322
3. ✗ 34
4. ✗ 10

Question Number : 21 Question Id : 54592722039 Question Type : MCQ Option Shuffling : Yes  
Correct Marks : 1 Wrong Marks : 0.25

निम्नलिखित प्रश्न में, श्रृंखला में एक संख्या गलत है। गलत संख्या ज्ञात कीजिए।

2, 10, 34, 105, 322

Options :

1. ✓ 105
2. ✗ 322
3. ✗ 34
4. ✗ 10

Question Number : 22 Question Id : 54592722040 Question Type : MCQ Option Shuffling : Yes  
Correct Marks : 1 Wrong Marks : 0.25

Choose the odd one from the given options.

Note: For this question, discrepancy is found in question/answer. So, this question is ignored for all candidates.

Options :

1. 98
2. 36
3. 164
4. 171

Question Number : 22 Question Id : 54592722040 Question Type : MCQ Option Shuffling : Yes  
Correct Marks : 1 Wrong Marks : 0.25

दिए गए विकल्पों में से भिन्न संख्या को चुनें।

Note: For this question, discrepancy is found in question/answer. So, this question is ignored for all candidates.

Options :

1. 98
2. 36
3. 164
4. 171

Question Number : 23 Question Id : 54592722041 Question Type : MCQ Option Shuffling : Yes  
Correct Marks : 1 Wrong Marks : 0.25

Choose the odd numeral pair/group in each of the following questions.

Options :

1. ✖ 72 : 12
2. ✖ 114 : 19
3. ✖ 78 : 13
4. ✔ 119 : 17

Question Number : 23 Question Id : 54592722041 Question Type : MCQ Option Shuffling : Yes  
Correct Marks : 1 Wrong Marks : 0.25

निम्नलिखित प्रश्न में विषम संख्या वाले युग्म / समूह को चुनिए।

Options :

1. ✖ 72 : 12
2. ✖ 114 : 19
3. ✖ 78 : 13
4. ✔ 119 : 17

Question Number : 24 Question Id : 54592722042 Question Type : MCQ Option Shuffling : Yes  
Correct Marks : 1 Wrong Marks : 0.25

Choose the odd one from the given options.

Options :

1. ✖ 11, 17, 53
2. ✖ 37, 59, 53
3. ✖ 71, 73, 37
4. ✔ 31, 36, 17

Question Number : 24 Question Id : 54592722042 Question Type : MCQ Option Shuffling : Yes  
Correct Marks : 1 Wrong Marks : 0.25

दिए गए विषम विकल्प को चुने।

Options :

1. ✖ 11, 17, 53
2. ✖ 37, 59, 53
3. ✖ 71, 73, 37
4. ✔ 31, 36, 17

Question Number : 25 Question Id : 54592722043 Question Type : MCQ Option Shuffling : Yes  
Correct Marks : 1 Wrong Marks : 0.25

In the following question, select the related letter/word/number from the given alternatives.

(240,251,264)

Options :

1. ✖ (320,331,343)
2. ✔ (320, 331, 344)
3. ✖ (320, 330, 344)
4. ✖ (320, 329, 344)

Question Number : 25 Question Id : 54592722043 Question Type : MCQ Option Shuffling : Yes  
Correct Marks : 1 Wrong Marks : 0.25

निम्नलिखित प्रश्न में दिए गए विकल्पों में से सम्बन्धित अक्षर/शब्द/संख्या को चुनिए।

(240,251,264)

Options :

1. ✖ (320, 331, 343)
2. ✔ (320, 331, 344)
3. ✖ (320, 330, 344)
4. ✖ (320, 329, 344)

Question Number : 26 Question Id : 54592722044 Question Type : MCQ Option Shuffling : Yes  
Correct Marks : 1 Wrong Marks : 0.25

Find the missing number in the following questions.

1	2	3
11	7	5
120	45	?

Options :

1. ✖ 19

2. ✖ 17

3. ✔ 16

4. ✖ 15

Question Number : 26 Question Id : 54592722044 Question Type : MCQ Option Shuffling : Yes  
Correct Marks : 1 Wrong Marks : 0.25

निम्नलिखित प्रश्न में लुप्त संख्या ज्ञात कीजिए।

1	2	3
11	7	5
120	45	?

Options :

1. ✖ 19

2. ✖ 17

3. ✔ 16

4. ✖ 15

Question Number : 27 Question Id : 54592722045 Question Type : MCQ Option Shuffling : Yes  
Correct Marks : 1 Wrong Marks : 0.25

Given interchanges: signs + and ÷, and numbers 9 and 6; then the value of  $9 \div 6 + 3 - 7$  is:

Options :

1. ✔ 2

2. ✖ 4

3. ✖ 6

4. ✖ 9

Question Number : 27 Question Id : 54592722045 Question Type : MCQ Option Shuffling : Yes

Correct Marks : 1 Wrong Marks : 0.25

दिए गए बदलाव: चिन्ह + और  $\div$ , और संख्या 9 और 6; के अनुसार  $9 \div 6 + 3 - 7$  का मान क्या होगा?

Options :

1. ✓ 2

2. ✗ 4

3. ✗ 6

4. ✗ 9

Question Number : 28 Question Id : 54592722046 Question Type : MCQ Option Shuffling : Yes

Correct Marks : 1 Wrong Marks : 0.25

In the question given below, there is a statement followed by two conclusions. You have to take the given statement to be true even if they seem to be at variance with commonly known facts and then decide which of the given conclusion logically follow(s) from the given statement.

Statement:

$S = A < P > R \leq T < U$

Conclusions:

I.  $U > A$

II.  $S \leq T$

Options :

1. ✗ Only conclusion I follows

2. ✗ Only conclusion II follows

3. ✗ Either conclusion I or II follows

4. ✓ Neither conclusion follows

Question Number : 28 Question Id : 54592722046 Question Type : MCQ Option Shuffling : Yes

Correct Marks : 1 Wrong Marks : 0.25

नीचे दिए गए प्रश्न में, एक कथन के बाद दो निष्कर्ष दिए गए हैं। आपको दिए गए कथन को सत्य मानना है, भले ही वे आम तथ्यों से भिन्न हों और फिर तय करें कि दिए गए कथन में से कौन सा निष्कर्ष तार्किक रूप से अनुसरण करता है।

कथन:

$$S = A < P > R \leq T < U$$

निष्कर्ष:

I.  $U > A$

II.  $S \leq T$

Options :

1. ✖ केवल निष्कर्ष I अनुसरण करता है
2. ✖ केवल निष्कर्ष II अनुसरण करता है
3. ✖ निष्कर्ष I या II अनुसरण करता है
4. ✔ कोई भी निष्कर्ष अनुसरण नहीं करता

Question Number : 29 Question Id : 54592722047 Question Type : MCQ Option Shuffling : Yes

Correct Marks : 1 Wrong Marks : 0.25

In the following question, one number is wrong in the series.  
Find out the wrong number.

124, 172, 228, 290, 364

Options :

1. ✖ 172
2. ✖ 364
3. ✔ 290
4. ✖ 124

Question Number : 29 Question Id : 54592722047 Question Type : MCQ Option Shuffling : Yes

Correct Marks : 1 Wrong Marks : 0.25

निम्नलिखित प्रश्न में, श्रृंखला में एक संख्या गलत है। गलत संख्या ज्ञात कीजिए।

124, 172, 228, 290, 364

Options :

1. ✖ 172

2. ✖ 364

3. ✔ 290

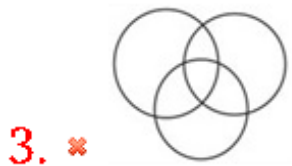

4. ✖ 124

Question Number : 30 Question Id : 54592722048 Question Type : MCQ Option Shuffling : Yes

Correct Marks : 1 Wrong Marks : 0.25

Which of the following diagrams best represents a relationship among Cousins, Nephews and Males?

Options :



Question Number : 30 Question Id : 54592722048 Question Type : MCQ Option Shuffling : Yes

Correct Marks : 1 Wrong Marks : 0.25

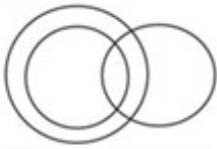
निम्नलिखित में से कौन सा चित्र चचेरे / ममेरे / मौसेरे / फुफेरे भाई / बहन, भतीजा / भांजा और पुरुष के बीच संबंध को दर्शाता है?

Options :

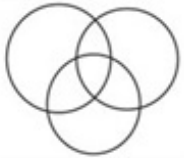
1. ✖



2. ✔



3. ✖



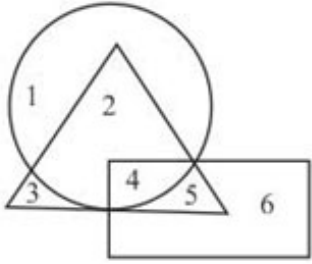
4. ✖



Question Number : 31 Question Id : 54592722049 Question Type : MCQ Option Shuffling : Yes

Correct Marks : 1 Wrong Marks : 0.25

In the given figure, the circle represents Smokers, rectangle represents alcoholic addicts and triangle represents tobacco chewer. which number represents Smokers who are tobacco chewer, but not Alcohol addict?

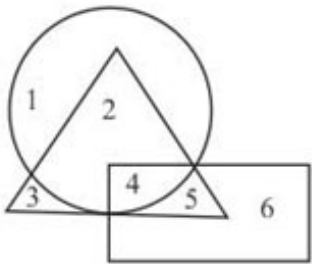


Options :

1. ✓ 2
2. ✗ 4
3. ✗ 5
4. ✗ 6

Question Number : 31 Question Id : 54592722049 Question Type : MCQ Option Shuffling : Yes  
Correct Marks : 1 Wrong Marks : 0.25

दी गयी आकृतियों में वृत्त, धूम्रपान करने वालों को, आयत, मदिरा सेवन करने वाले को और त्रिभुज, तंबाकू चबाने वालो को दर्शाता हैं। कौन सी संख्या धूम्रपान करने वालों को दर्शाती हैं जो तंबाकू चबाते हैं, लेकिन शराब नहीं पीते हैं?



Options :

1. ✓ 2

2. ✗ 4

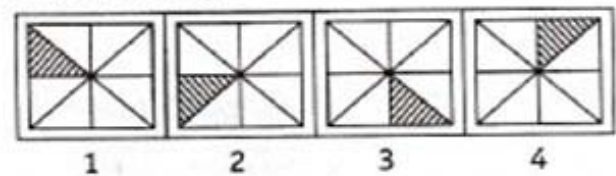
3. ✗ 5

4. ✗ 6

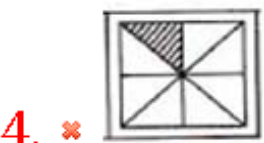
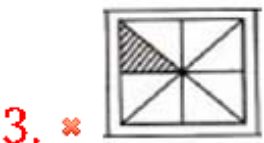
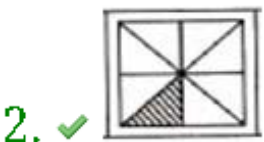
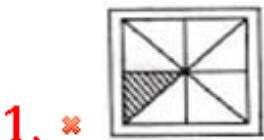
Question Number : 32 Question Id : 54592722050 Question Type : MCQ Option Shuffling : Yes  
Correct Marks : 1 Wrong Marks : 0.25

Complete the series by choosing right figure from the given choices.

Problem Figures



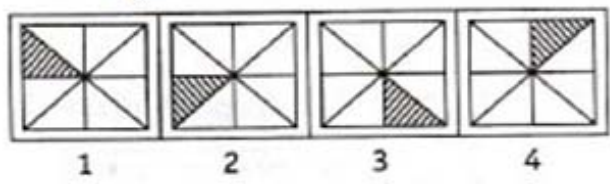
Options :



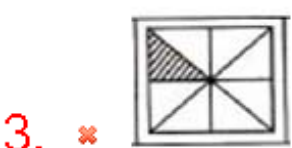
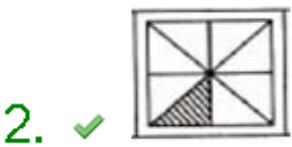
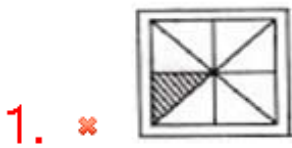
Question Number : 32 Question Id : 54592722050 Question Type : MCQ Option Shuffling : Yes  
Correct Marks : 1 Wrong Marks : 0.25

दिए गए विकल्पों में से सही उत्तर चुनकर श्रृंखला को पूरा करें।

प्रश्न आकृति



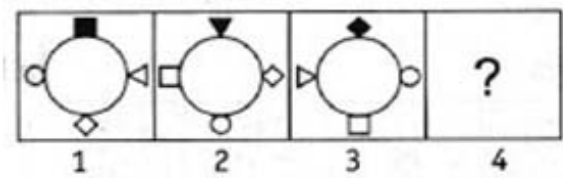
Options :



Question Number : 33 Question Id : 54592722051 Question Type : MCQ Option Shuffling : Yes  
Correct Marks : 1 Wrong Marks : 0.25

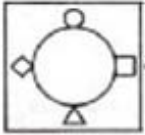
Complete the series by choosing right figure from the given choices.

Problem Figures

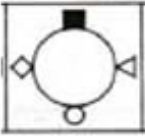


Options :

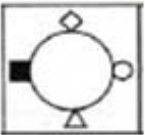
1. ✖



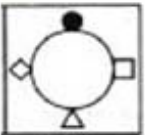
2. ✖



3. ✖



4. ✔

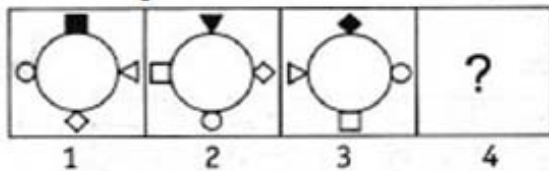


Question Number : 33 Question Id : 54592722051 Question Type : MCQ Option Shuffling : Yes

Correct Marks : 1 Wrong Marks : 0.25

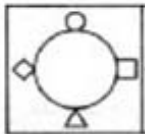
दिए गए विकल्पों में से सही उत्तर चुनकर श्रृंखला को पूरा करें।

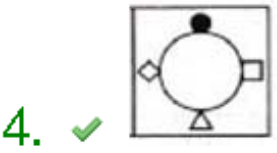
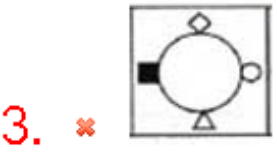
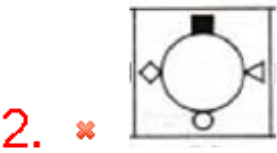
प्रश्न आकृति



Options :

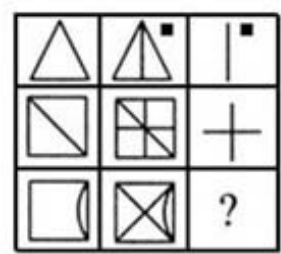
1. ✖



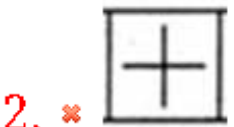


Question Number : 34 Question Id : 54592722052 Question Type : MCQ Option Shuffling : Yes  
Correct Marks : 1 Wrong Marks : 0.25

Find the missing figure in the given matrix.












Options :



4. ✓ 

Question Number : 34 Question Id : 54592722052 Question Type : MCQ Option Shuffling : Yes  
Correct Marks : 1 Wrong Marks : 0.25

दिए गए मैट्रिक्स में लुप्त आकृति ज्ञात कीजिए।

Options :

1. ✖ 

2. ✖ 

3. ✖ 

4. ✓ 

Question Number : 35 Question Id : 54592722053 Question Type : MCQ Option Shuffling : Yes  
Correct Marks : 1 Wrong Marks : 0.25

Three of the four figures marked (A), (B), (C) and (D) are in a sequence or similarity in some way. You have to choose the figure which is odd /different:

Options :



Question Number : 35 Question Id : 54592722053 Question Type : MCQ Option Shuffling : Yes  
Correct Marks : 1 Wrong Marks : 0.25

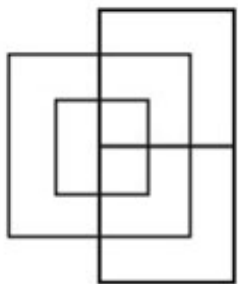
चिह्नित आकृतियां (ए), (बी), (सी) और (डी) में से तीन किसी क्रम या समानता में एक हैं। आपको वह आकृति चुननी होगी जो विषम / भिन्न हो

Options :



Question Number : 36 Question Id : 54592722054 Question Type : MCQ Option Shuffling : Yes  
Correct Marks : 1 Wrong Marks : 0.25

How many Squares are there in the figure given below?



Options :

1. ✖ 7

2. ✔ 8

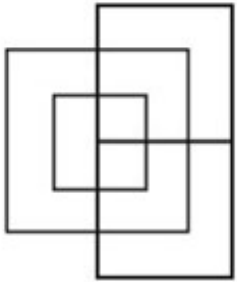
3. ✖ 9

4. ✖ 5

Question Number : 36 Question Id : 54592722054 Question Type : MCQ Option Shuffling : Yes

Correct Marks : 1 Wrong Marks : 0.25

नीचे दी गई आकृति में कितने वर्ग हैं?



Options :

1. ✖ 7

2. ✔ 8


3. ✖ 9

4. ✖ 5

Question Number : 37 Question Id : 54592722055 Question Type : MCQ Option Shuffling : Yes

Correct Marks : 1 Wrong Marks : 0.25

From the given four positions of a single dice, find the number of dots at the face opposite to the face having 1 dot.



I



II



III



IV

Options :

1. ✖ 1

2. ✖ 4

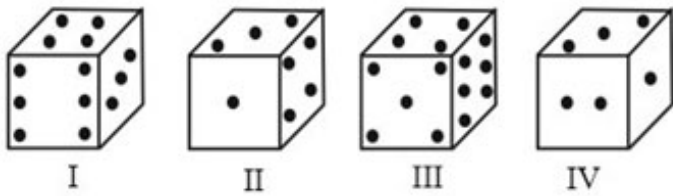
3. ✔ 6

4. ✖ 3

Question Number : 37 Question Id : 54592722055 Question Type : MCQ Option Shuffling : Yes

Correct Marks : 1 Wrong Marks : 0.25

उस फलक पर बिंदुओं की संख्या पहचाने जो जिस फलक पर 1 बिंदु हो उसके विपरीत है।



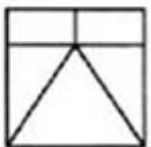
Options :

1. ✖ 1
2. ✖ 4
3. ✔ 6
4. ✖ 3

Question Number : 38 Question Id : 54592722056 Question Type : MCQ Option Shuffling : Yes  
Correct Marks : 1 Wrong Marks : 0.25

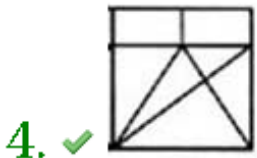
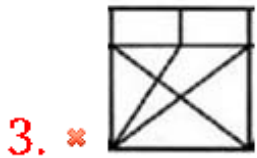
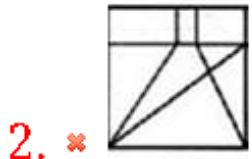
In the given question find the answer figure in which question figure is embedded.

Questions Figure



Options :

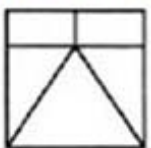




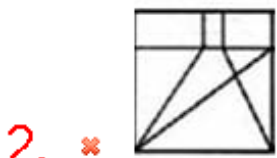
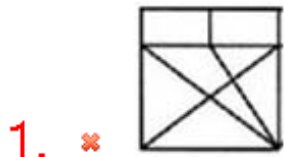
Question Number : 38 Question Id : 54592722056 Question Type : MCQ Option Shuffling : Yes  
Correct Marks : 1 Wrong Marks : 0.25

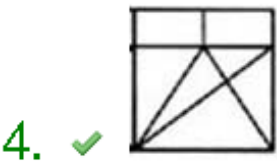
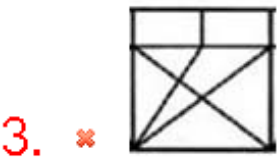
दिए गए प्रश्न में उत्तर आकृति ज्ञात कीजिए जिसमें प्रश्न आकृति सन्निहित है।

प्रश्न चिन्ह



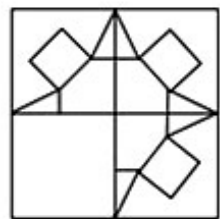
Options :



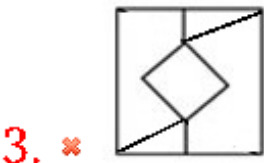
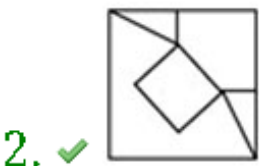
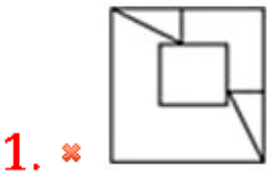


Question Number : 39 Question Id : 54592722057 Question Type : MCQ Option Shuffling : Yes  
Correct Marks : 1 Wrong Marks : 0.25

Which answer figure will complete the pattern in the question figure?



Options :

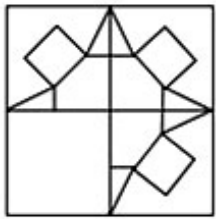


4. ✖



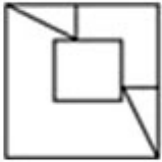
Question Number : 39 Question Id : 54592722057 Question Type : MCQ Option Shuffling : Yes  
Correct Marks : 1 Wrong Marks : 0.25

कौन सी उत्तर आकृति प्रश्न आकृति में पैटर्न को पूरा करेगी?



Options :

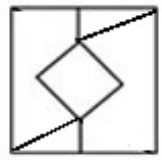
1. ✖



2. ✔



3. ✖



4. ✖



Question Number : 40   Question Id : 54592722058   Question Type : MCQ   Option Shuffling : Yes  
Correct Marks : 1   Wrong Marks : 0.25

Which of the following choices is the exact mirror image of the main figure.

Question Figure



Options :



Question Number : 40   Question Id : 54592722058   Question Type : MCQ   Option Shuffling : Yes  
Correct Marks : 1   Wrong Marks : 0.25

निम्नलिखित में से कौन सा विकल्प मुख्य आकृति की सटीक दर्पण छवि है?

प्रश्न आकृति



Options :

1. ✓



2. ✗



3. ✗



4. ✗



# General Awareness1

Group Number :	3
Group Id :	5459271093
Group Maximum Duration :	0
Group Minimum Duration :	0
Show Attended Group? :	No
Edit Attended Group? :	No
Break time:	0
Group Marks:	20
Is this Group for Examiner?:	No
Revisit allowed for group Instructions? :	Yes

Maximum Instruction Time: 0  
Minimum Instruction Time: 0

## General Awareness1

Section Id : 5459271093  
Section Number : 1  
Section type : Online  
Mandatory or Optional: Mandatory  
Number of Questions: 20  
Number of Questions to be attempted: 20  
Section Marks: 20

Sub-Section Number: 1  
Sub-Section Id: 5459271311  
Question Shuffling Allowed : Yes

Question Number : 41 Question Id : 54592722059 Question Type : MCQ Option Shuffling : Yes  
Correct Marks : 1 Wrong Marks : 0.25

Which country gifted Manipur, the Imphal Peace Museum?

Options :

1. ✖ China
2. ✖ Bangladesh
3. ✔ Japan
4. ✖ Norway

Question Number : 41 Question Id : 54592722059 Question Type : MCQ Option Shuffling : Yes  
Correct Marks : 1 Wrong Marks : 0.25

इम्फाल शांति संग्रहालय, मणिपुर को किस देश ने उपहार में दिया था?

Options :

1. ✖ चीन
2. ✖ बांग्लादेश
3. ✔ जापान
4. ✖ नॉर्वे

Question Number : 42 Question Id : 54592722060 Question Type : MCQ Option Shuffling : Yes  
Correct Marks : 1 Wrong Marks : 0.25

Who is awarded by Tansen Samman 2018?

Options :

1. ✖ Pt. Dalchan Sharma
2. ✔ Manju Mehta
3. ✖ Savita Devi
4. ✖ Pt. Ulhaas Kashalkar

Question Number : 42 Question Id : 54592722060 Question Type : MCQ Option Shuffling : Yes

Correct Marks : 1 Wrong Marks : 0.25

तानसेन सम्मान 2018 से किसे सम्मानित किया गया था?

Options :

1. ✖ पं. डालचन शर्मा
2. ✔ मंजू मेहता
3. ✖ सविता देवी
4. ✖ पं. उल्हास काशलकर

Question Number : 43 Question Id : 54592722061 Question Type : MCQ Option Shuffling : Yes

Correct Marks : 1 Wrong Marks : 0.25

Which among the following got the GI (Geographical Indications) in 2019?

Options :

1. ✔ Kolhapuri Chappal
2. ✖ Kadaknath
3. ✖ Banglar rasogolla
4. ✖ Etikoppaka Toys

Question Number : 43 Question Id : 54592722061 Question Type : MCQ Option Shuffling : Yes

Correct Marks : 1 Wrong Marks : 0.25

निम्नलिखित में से किसे 2019 में जीआई (भौगोलिक संकेत) दिया गया है?

Options :

1. ✓ कोल्हापुरी चप्पल
2. ✖ कड़कनाथ
3. ✖ बंगाल रसोगोला
4. ✖ एटिकोप्पक्का खिलौने

Question Number : 44 Question Id : 54592722062 Question Type : MCQ Option Shuffling : Yes  
Correct Marks : 1 Wrong Marks : 0.25

In which state of India Kheer Bhawani Mela is held?

Options :

1. ✖ Gujarat
2. ✖ Maharashtra
3. ✖ Assam
4. ✓ Jammu & Kashmir

Question Number : 44 Question Id : 54592722062 Question Type : MCQ Option Shuffling : Yes  
Correct Marks : 1 Wrong Marks : 0.25

भारत के किस राज्य में खीर भवानी मेला आयोजित किया जाता है?

Options :

1. ✖ गुजरात
2. ✖ महाराष्ट्र
3. ✖ असम
4. ✓ जम्मू और कश्मीर

Question Number : 45 Question Id : 54592722063 Question Type : MCQ Option Shuffling : Yes  
Correct Marks : 1 Wrong Marks : 0.25

Among the following tax which one is indirect tax?

Options :

1. ✖ Income Tax
2. ✓ Sales Tax
3. ✖ Wealth Tax

## 4. ✖ Corperation Tax

Question Number : 45 Question Id : 54592722063 Question Type : MCQ Option Shuffling : Yes  
Correct Marks : 1 Wrong Marks : 0.25

निम्नलिखित में से कौन-सा कर अप्रत्यक्ष कर है?

Options :

1. ✖ आयकर
2. ✔ बिक्री कर
3. ✖ वेल्थ कर
4. ✖ सहयोग कर

Question Number : 46 Question Id : 54592722064 Question Type : MCQ Option Shuffling : Yes  
Correct Marks : 1 Wrong Marks : 0.25

Which is the richest state in India in 2019?

Options :

1. ✖ Tamil Nadu
2. ✖ Uttar Pradesh
3. ✔ Maharashtra
4. ✖ Madhya Pradesh

Question Number : 46 Question Id : 54592722064 Question Type : MCQ Option Shuffling : Yes  
Correct Marks : 1 Wrong Marks : 0.25

2019 में भारत का सबसे अमीर राज्य कौन-सा है?

Options :

1. ✖ तमिलनाडु
2. ✖ उत्तर प्रदेश
3. ✔ महाराष्ट्र
4. ✖ मध्य प्रदेश

Question Number : 47 Question Id : 54592722065 Question Type : MCQ Option Shuffling : Yes  
Correct Marks : 1 Wrong Marks : 0.25

On what basis India is at third rank according to budget speech of Arun Jaitley 2018-19?

Options :

1. ✖ Gross Domestic Product
2. ✖ Foreign Direct Investment
3. ✖ Agricultural Production
4. ✔ Purchasing Power Parity

Question Number : 47 Question Id : 54592722065 Question Type : MCQ Option Shuffling : Yes

Correct Marks : 1 Wrong Marks : 0.25

अरुण जेटली के 2018-19 के बजट भाषण के अनुसार भारत किस आधार पर तीसरे स्थान पर है?

Options :

1. ✖ सकल घरेलू उत्पाद
2. ✖ विदेशी प्रत्यक्ष निवेश
3. ✖ कृषि उत्पादन
4. ✔ क्रय शक्ति समता

Question Number : 48 Question Id : 54592722066 Question Type : MCQ Option Shuffling : Yes

Correct Marks : 1 Wrong Marks : 0.25

In which state of India a new species of paddy frog is found?

Options :

1. ✖ Telangana
2. ✖ Odisha
3. ✔ Assam
4. ✖ Kerala

Question Number : 48 Question Id : 54592722066 Question Type : MCQ Option Shuffling : Yes

Correct Marks : 1 Wrong Marks : 0.25

भारत के किस राज्य में धानी मेंढक की एक नई प्रजाति पाई गयी है?

Options :

1. ✖ तेलंगाना
2. ✖ ओडिशा
3. ✔ असम
4. ✖ केरल

Question Number : 49 Question Id : 54592722067 Question Type : MCQ Option Shuffling : Yes  
Correct Marks : 1 Wrong Marks : 0.25

What percent of households in rural India accessed to toilet according to survey National Annual Rural Sanitary Survey 2018-19?

Options :

1. ✖ 94.2 percent
2. ✖ 94.5 percent
3. ✔ 93.1 percent
4. ✖ 93.4 percent

Question Number : 49 Question Id : 54592722067 Question Type : MCQ Option Shuffling : Yes  
Correct Marks : 1 Wrong Marks : 0.25

राष्ट्रीय वार्षिक ग्रामीण स्वच्छता सर्वेक्षण 2018-19 के अनुसार ग्रामीण भारत के कितने प्रतिशत घरों में शौचालय की सुविधा है?

Options :

1. ✖ 94.2 प्रतिशत
2. ✖ 94.5 प्रतिशत
3. ✔ 93.1 प्रतिशत
4. ✖ 93.4 प्रतिशत

Question Number : 50 Question Id : 54592722068 Question Type : MCQ Option Shuffling : Yes  
Correct Marks : 1 Wrong Marks : 0.25

The color of Tomato is red due to the presence of \_\_\_\_\_.

Options :

1. ✖ Beta Carotene
2. ✖ Limonene
3. ✖ Fructose
4. ✔ Lycopene

Question Number : 50 Question Id : 54592722068 Question Type : MCQ Option Shuffling : Yes  
Correct Marks : 1 Wrong Marks : 0.25

\_\_\_\_\_ की उपस्थिति के कारण टमाटर का रंग लाल होता है।

Options :

1. ✖ बीटा कैरोटीन
2. ✖ लिमोनेन
3. ✖ फ्रुक्टोज
4. ✔ लाइकोपीन

Question Number : 51 Question Id : 54592722069 Question Type : MCQ Option Shuffling : Yes  
Correct Marks : 1 Wrong Marks : 0.25

Which element is used as timekeeper in the atomic clocks?

Options :

1. ✖ Potassium
2. ✖ Magnesium
3. ✔ Cesium
4. ✖ Vanadium

Question Number : 51 Question Id : 54592722069 Question Type : MCQ Option Shuffling : Yes  
Correct Marks : 1 Wrong Marks : 0.25

परमाणु घड़ियों में समयपाल (टाइमकीपर) के रूप में किस तत्व का उपयोग किया जाता है?

Options :

1. ✖ पोटेशियम
2. ✖ मैग्नीशियम

3. ✓ सीज़ियम

4. ✗ वैनेडियम

Question Number : 52 Question Id : 54592722070 Question Type : MCQ Option Shuffling : Yes

Correct Marks : 1 Wrong Marks : 0.25

What is the Maternal Mortality Ratio in India as of July 2019?

Options :

1. ✗ 167

2. ✗ 218

3. ✓ 130

4. ✗ 178

Question Number : 52 Question Id : 54592722070 Question Type : MCQ Option Shuffling : Yes

Correct Marks : 1 Wrong Marks : 0.25

जुलाई 2019 तक उपलब्ध जानकारी के अनुसार मातृ मृत्यु अनुपात क्या है?

Options :

1. ✗ 167

2. ✗ 218

3. ✓ 130

4. ✗ 178

Question Number : 53 Question Id : 54592722071 Question Type : MCQ Option Shuffling : Yes

Correct Marks : 1 Wrong Marks : 0.25

In which tree annual growth rings are absent?

Options :

1. ✗ Pine Tree

2. ✓ Palm Tree

3. ✗ Oaks

4. ✗ Banyan Tree

Question Number : 53 Question Id : 54592722071 Question Type : MCQ Option Shuffling : Yes  
Correct Marks : 1 Wrong Marks : 0.25

इन में से किस वृक्ष में वार्षिक वृद्धि के छल्ले अनुपस्थित होते हैं?

Options :

1. ✖ चीड़ का पेड़
2. ✔ ताड़ का पेड़
3. ✖ ओक्स
4. ✖ बरगद का पेड़

Question Number : 54 Question Id : 54592722072 Question Type : MCQ Option Shuffling : Yes  
Correct Marks : 1 Wrong Marks : 0.25

Which of the following device measures depth of a sea?

Options :

1. ✖ Altimeter
2. ✖ Barometer
3. ✖ Anemometer
4. ✔ Fathometer

Question Number : 54 Question Id : 54592722072 Question Type : MCQ Option Shuffling : Yes  
Correct Marks : 1 Wrong Marks : 0.25

निम्नलिखित में से कौन-सा उपकरण समुद्र की गहराई को मापता है?

Options :

1. ✖ अल्टीमीटर
2. ✖ बैरोमीटर
3. ✖ एनीमोमीटर
4. ✔ फेथोमीटर

Question Number : 55 Question Id : 54592722073 Question Type : MCQ Option Shuffling : Yes  
Correct Marks : 1 Wrong Marks : 0.25

In which year Vitamin A was discovered?

Options :

1. ✖ 1910
2. ✖ 1911
3. ✔ 1912
4. ✖ 1913

Question Number : 55 Question Id : 54592722073 Question Type : MCQ Option Shuffling : Yes  
Correct Marks : 1 Wrong Marks : 0.25

विटामिन A की खोज किस वर्ष हुई थी?

Options :

1. ✖ 1910
2. ✖ 1911
3. ✔ 1912
4. ✖ 1913

Question Number : 56 Question Id : 54592722074 Question Type : MCQ Option Shuffling : Yes  
Correct Marks : 1 Wrong Marks : 0.25

Consider the following statement:

- I. Ukai Dam is constructed on Tapti River.
- II. Panchet Dam is constructed on Beas River.

Which statement is correct?

Options :

1. ✔ Only I
2. ✖ Only II
3. ✖ Both I and II
4. ✖ Either I or II

Question Number : 56 Question Id : 54592722074 Question Type : MCQ Option Shuffling : Yes  
Correct Marks : 1 Wrong Marks : 0.25

निम्नलिखित कथन पर विचार करें:

- I. उकाई बांध ताप्ती नदी पर निर्मित है।
- II. पंचेत बांध का निर्माण ब्यास नदी पर किया गया है।

कौन-सा कथन सही है ?

Options :

1. ✓ केवल I
2. ✗ केवल II
3. ✗ I और II दोनों
4. ✗ या तो I या II

Question Number : 57 Question Id : 54592722075 Question Type : MCQ Option Shuffling : Yes

Correct Marks : 1 Wrong Marks : 0.25

Which of the following Tribe lives in Arunachal Pradesh?

Options :

1. ✗ Bodo tribe
2. ✗ Chenchu tribe
3. ✓ Nyishi tribe
4. ✗ Toto tribe

Question Number : 57 Question Id : 54592722075 Question Type : MCQ Option Shuffling : Yes

Correct Marks : 1 Wrong Marks : 0.25

निम्न में से कौन-सी जनजाति अरुणाचल प्रदेश में रहती है?

Options :

1. ✗ बोडो जनजाति
2. ✗ चेंचू जनजाति
3. ✓ नाइशि जनजाति

#### 4. ✖ टोटो जनजाति

Question Number : 58 Question Id : 54592722076 Question Type : MCQ Option Shuffling : Yes  
Correct Marks : 1 Wrong Marks : 0.25

Which cyclone is termed as 'rarest of rare' by RIMES reports?

Options :

1. ✖ Nilofar
2. ✖ Fani
3. ✖ Gaja
4. ✔ Titli

Question Number : 58 Question Id : 54592722076 Question Type : MCQ Option Shuffling : Yes  
Correct Marks : 1 Wrong Marks : 0.25

RIMES रिपोर्ट द्वारा किस चक्रवात को 'दुर्लभतम दुर्लभ' कहा गया है?

Options :

1. ✖ निलोफर
2. ✖ फानी
3. ✖ गाजा
4. ✔ तितली

Question Number : 59 Question Id : 54592722077 Question Type : MCQ Option Shuffling : Yes  
Correct Marks : 1 Wrong Marks : 0.25

For what 'karewas' the lacustrine deposit in Kashmir is known?

Options :

1. ✖ Terrace farming
2. ✖ Apple Orchards
3. ✔ Saffron Cultivation
4. ✖ Shifting Cultivation

Question Number : 59 Question Id : 54592722077 Question Type : MCQ Option Shuffling : Yes  
Correct Marks : 1 Wrong Marks : 0.25

करेवास' जो की झील द्वारा निक्षेपित क्षेत्र है, किस लिए जाना जाता है ?

Options :

1. ✖ टेरेस खेती
2. ✖ सेब के बाग
3. ✔ केसर की खेती
4. ✖ शिफ्टिंग कल्टीवेशन

Question Number : 60 Question Id : 54592722078 Question Type : MCQ Option Shuffling : Yes  
Correct Marks : 1 Wrong Marks : 0.25

Where does the oldest oil field of India located?

Options :

1. ✔ Assam
2. ✖ Gujarat
3. ✖ Tamil Nadu
4. ✖ Arunachal Pradesh

Question Number : 60 Question Id : 54592722078 Question Type : MCQ Option Shuffling : Yes  
Correct Marks : 1 Wrong Marks : 0.25

भारत का सबसे पुराना तेल क्षेत्र कहाँ स्थित है?

Options :

1. ✔ असम
2. ✖ गुजरात
3. ✖ तमिलनाडु
4. ✖ अरुणाचल प्रदेश

## General Awareness2

Group Number :

4

Group Id :

5459271094

Group Maximum Duration :	0
Group Minimum Duration :	0
Show Attended Group? :	No
Edit Attended Group? :	No
Break time:	0
Group Marks:	20
Is this Group for Examiner?:	No
Revisit allowed for group Instructions? :	Yes
Maximum Instruction Time:	0
Minimum Instruction Time:	0

## General Awareness2

Section Id :	5459271094
Section Number :	1
Section type :	Online
Mandatory or Optional:	Mandatory
Number of Questions:	20
Number of Questions to be attempted:	20
Section Marks:	20
Sub-Section Number:	1
Sub-Section Id:	5459271312
Question Shuffling Allowed :	Yes

Question Number : 61   Question Id : 54592722079   Question Type : MCQ   Option Shuffling : Yes  
 Correct Marks : 1   Wrong Marks : 0.25

Nilgiri Tahr is \_\_\_\_\_.

Options :

- ✖ Cow
- ✖ Bull
- ✔ Goat
- ✖ Cat

Question Number : 61   Question Id : 54592722079   Question Type : MCQ   Option Shuffling : Yes  
 Correct Marks : 1   Wrong Marks : 0.25

नीलगिरि तहर क्या है?

Options :

- ✖ गाय
- ✖ सांड

3. ✓ बकरी

4. ✖ बिल्ली

Question Number : 62 Question Id : 54592722080 Question Type : MCQ Option Shuffling : Yes

Correct Marks : 1 Wrong Marks : 0.25

Which of the following metal was used in India for the first time?

Options :

1. ✖ Iron

2. ✖ Silver

3. ✓ Copper

4. ✖ Aluminium

Question Number : 62 Question Id : 54592722080 Question Type : MCQ Option Shuffling : Yes

Correct Marks : 1 Wrong Marks : 0.25

भारत में निम्नलिखित में से किस धातु का पहली बार उपयोग किया गया था?

Options :

1. ✖ लोहा

2. ✖ चांदी

3. ✓ ताम्बा

4. ✖ एल्युमिनियम

Question Number : 63 Question Id : 54592722081 Question Type : MCQ Option Shuffling : Yes

Correct Marks : 1 Wrong Marks : 0.25

In which year Goa was captured by Portuguese?

Options :

1. ✖ 1410

2. ✓ 1510

3. ✖ 1515

4. ✖ 1610

Question Number : 63 Question Id : 54592722081 Question Type : MCQ Option Shuffling : Yes  
Correct Marks : 1 Wrong Marks : 0.25

किस वर्ष में गोवा पर पुर्तगालियों ने कब्जा कर लिया था?

Options :

1. ✖ 1410

2. ✔ 1510

3. ✖ 1515

4. ✖ 1610

Question Number : 64 Question Id : 54592722082 Question Type : MCQ Option Shuffling : Yes  
Correct Marks : 1 Wrong Marks : 0.25

Among the following which battle was fought between Humayun and Sher shah Suri?

Options :

1. ✔ Battle of Chausa

2. ✖ Battle of Buxar

3. ✖ Battle of Panipat

4. ✖ Battle of Plassey

Question Number : 64 Question Id : 54592722082 Question Type : MCQ Option Shuffling : Yes  
Correct Marks : 1 Wrong Marks : 0.25

निम्नलिखित में से कौन-सी लड़ाई हुमायूँ और शेर शाह सूरी के बीच लड़ी गई थी?

Options :

1. ✔ चौसा का युद्ध

2. ✖ बक्सर का युद्ध

3. ✖ पानीपत के युद्ध

4. ✖ प्लासी का युद्ध

Question Number : 65 Question Id : 54592722083 Question Type : MCQ Option Shuffling : Yes  
Correct Marks : 1 Wrong Marks : 0.25

Who was the Viceroy of India at the time of civil disobedience movement?

Options :

1. ✖ Lord Wavell
2. ✖ Lord Reading
3. ✖ Lord Chelmsford
4. ✔ Lord Irwin

Question Number : 65 Question Id : 54592722083 Question Type : MCQ Option Shuffling : Yes  
Correct Marks : 1 Wrong Marks : 0.25

सविनय अवज्ञा आंदोलन के समय भारत का वायसराय कौन था?

Options :

1. ✖ लॉर्ड वेवेल
2. ✖ लॉर्ड रीडिंग
3. ✖ लॉर्ड चलेमसफोर्ड
4. ✔ लॉर्ड इरविन

Question Number : 66 Question Id : 54592722084 Question Type : MCQ Option Shuffling : Yes  
Correct Marks : 1 Wrong Marks : 0.25

Which Mughal emperor enforced Sharia Law in India?

Options :

1. ✖ Akbar
2. ✖ Babur
3. ✔ Aurangzeb
4. ✖ Bahadur shah-II

Question Number : 66 Question Id : 54592722084 Question Type : MCQ Option Shuffling : Yes  
Correct Marks : 1 Wrong Marks : 0.25

भारत में किस मुगल सम्राट ने सरिया कानून लागू किया?

Options :

1. ✖ अकबर
2. ✖ बाबर
3. ✔ औरंगजेब
4. ✖ बहादुर शाह- II

Question Number : 67 Question Id : 54592722085 Question Type : MCQ Option Shuffling : Yes  
Correct Marks : 1 Wrong Marks : 0.25

Between the sixth and fourth centuries BC which Mahajanpad was the most powerful?

Options :

1. ✔ Magadha
2. ✖ Anga
3. ✖ Kasi
4. ✖ Gandhara

Question Number : 67 Question Id : 54592722085 Question Type : MCQ Option Shuffling : Yes  
Correct Marks : 1 Wrong Marks : 0.25

छठी और चौथी शताब्दी ईसा पूर्व के बीच कौन-सा महाजनपद सबसे शक्तिशाली था?

Options :

1. ✔ मगध
2. ✖ अंगा
3. ✖ काशी
4. ✖ गांधार

Question Number : 68 Question Id : 54592722086 Question Type : MCQ Option Shuffling : Yes  
Correct Marks : 1 Wrong Marks : 0.25

Shaili Chopra is associated with:

Options :

1. ✖ Classical singing

- 2. ✖ Sports
- 3. ✖ Acting
- 4. ✔ Journalism

Question Number : 68 Question Id : 54592722086 Question Type : MCQ Option Shuffling : Yes  
Correct Marks : 1 Wrong Marks : 0.25

शाली चोपड़ा का संबंध किससे है?

Options :

- 1. ✖ शास्त्रीय गायन
- 2. ✖ खेल
- 3. ✖ अभिनय
- 4. ✔ पत्रकारिता

Question Number : 69 Question Id : 54592722087 Question Type : MCQ Option Shuffling : Yes  
Correct Marks : 1 Wrong Marks : 0.25

Which of the following created the famous Tom and Jerry Cartoon?

Options :

- 1. ✔ Joseph Barbera
- 2. ✖ Walt Disney
- 3. ✖ Martin Goodman
- 4. ✖ E.C. Segar

Question Number : 69 Question Id : 54592722087 Question Type : MCQ Option Shuffling : Yes  
Correct Marks : 1 Wrong Marks : 0.25

निम्नलिखित में से किसने प्रसिद्ध टॉम एंड जेरी कार्टून बनाया?

Options :

- 1. ✔ जोसेफ बारबरा
- 2. ✖ वॉल्ट डिज़नी
- 3. ✖ मार्टिन गुडमैन

4. ✖ इ. सी. सेगार

Question Number : 70 Question Id : 54592722088 Question Type : MCQ Option Shuffling : Yes  
Correct Marks : 1 Wrong Marks : 0.25

Which country awards Noble Peace Prize?

Options :

1. ✖ Iceland

2. ✖ Netherland

3. ✔ Norway

4. ✖ Germany

Question Number : 70 Question Id : 54592722088 Question Type : MCQ Option Shuffling : Yes  
Correct Marks : 1 Wrong Marks : 0.25

नोबल शांति पुरस्कार किस देश द्वारा दिया जाता है?

Options :

1. ✖ आइसलैंड

2. ✖ नीदरलैण्ड

3. ✔ नॉर्वे

4. ✖ जर्मनी

Question Number : 71 Question Id : 54592722089 Question Type : MCQ Option Shuffling : Yes  
Correct Marks : 1 Wrong Marks : 0.25

Which among the following is India's highest civilian award?

Options :

1. ✖ Padma-Bhushan

2. ✖ Padma-Shri

3. ✔ Bharat- Ratna

4. ✖ Padma-Vibhushan

Question Number : 71 Question Id : 54592722089 Question Type : MCQ Option Shuffling : Yes  
Correct Marks : 1 Wrong Marks : 0.25

निम्नलिखित में से कौन-सा पुरस्कार भारत का सर्वोच्च नागरिक पुरस्कार है?

Options :

1. ✖ पद्म-भूषण
2. ✖ पद्म-श्री
3. ✔ भारत- रत्न
4. ✖ पद्म-विभूषण

Question Number : 72 Question Id : 54592722090 Question Type : MCQ Option Shuffling : Yes  
Correct Marks : 1 Wrong Marks : 0.25

Which of the following book is written by Shashi Tharoor?

Options :

1. ✖ Two Lives
2. ✔ Bookless in Bagdad
3. ✖ Mythologies
4. ✖ Silent Spring

Question Number : 72 Question Id : 54592722090 Question Type : MCQ Option Shuffling : Yes  
Correct Marks : 1 Wrong Marks : 0.25

शशि थरूर ने निम्नलिखित में से कौन -सी पुस्तक लिखी है?

Options :

1. ✖ टू लाइव्स
2. ✔ बुकलेस इन बगदाद
3. ✖ पौराणिक मायथोलोजिस
4. ✖ साइलेंट स्प्रिंग

Question Number : 73 Question Id : 54592722091 Question Type : MCQ Option Shuffling : Yes  
Correct Marks : 1 Wrong Marks : 0.25

'The guide' is written by \_\_\_\_\_.

Options :

1. ✖ Barak Obama
2. ✖ Ruskin Bond
3. ✔ R.K. Narayan
4. ✖ Jane Austen

Question Number : 73 Question Id : 54592722091 Question Type : MCQ Option Shuffling : Yes  
Correct Marks : 1 Wrong Marks : 0.25

द गाइड' को \_\_\_\_\_ द्वारा लिखा गया है।

Options :

1. ✖ बराक ओबामा
2. ✖ रस्किन बॉन्ड
3. ✔ आर.के. नारायण
4. ✖ जेन ऑस्टेन

Question Number : 74 Question Id : 54592722092 Question Type : MCQ Option Shuffling : Yes  
Correct Marks : 1 Wrong Marks : 0.25

Which article of Indian Constitution empowers the election commission of India to issue rules and guidelines?

Options :

1. ✖ Article 322
2. ✖ Article 323
3. ✔ Article 324
4. ✖ Article 325

Question Number : 74 Question Id : 54592722092 Question Type : MCQ Option Shuffling : Yes  
Correct Marks : 1 Wrong Marks : 0.25

भारतीय संविधान का कौन-सा अनुच्छेद भारत के चुनाव आयोग को नियम और दिशा निर्देश जारी करने का अधिकार प्रदान करता है?

Options :

1. ✖ अनुच्छेद 322

2. ✖ अनुच्छेद 323

3. ✔ अनुच्छेद 324

4. ✖ अनुच्छेद 325

Question Number : 75 Question Id : 54592722093 Question Type : MCQ Option Shuffling : Yes  
Correct Marks : 1 Wrong Marks : 0.25

During the making of Indian Constitution from which country's constitution the feature, 'Procedure for amendment in the Constitution' is taken?

Options :

1. ✖ Ireland

2. ✔ South Africa

3. ✖ Britain

4. ✖ Germany

Question Number : 75 Question Id : 54592722093 Question Type : MCQ Option Shuffling : Yes  
Correct Marks : 1 Wrong Marks : 0.25

भारतीय संविधान के निर्माण के दौरान किस देश के संविधान से 'संविधान में संशोधन की प्रक्रिया' ली गई है?

Options :

1. ✖ आयरलैंड

2. ✔ दक्षिण अफ्रीका

3. ✖ ब्रिटेन

4. ✖ जर्मनी

Question Number : 76 Question Id : 54592722094 Question Type : MCQ Option Shuffling : Yes  
Correct Marks : 1 Wrong Marks : 0.25

What is the minimum age of person to be a Governor of the State according to constitution of india?

Options :

1. ✔ 35 years

- 2. ✖ 40 Years
- 3. ✖ 45 Years
- 4. ✖ 50 Years

Question Number : 76 Question Id : 54592722094 Question Type : MCQ Option Shuffling : Yes  
Correct Marks : 1 Wrong Marks : 0.25

भारतीय संविधान के अनुसार, राज्य का राज्यपाल बनने के लिए किसी व्यक्ति की न्यूनतम आयु क्या होनी चाहिए?

Options :

- 1. ✔ 35 वर्ष
- 2. ✖ 40 वर्ष
- 3. ✖ 45 वर्ष
- 4. ✖ 50 वर्ष

Question Number : 77 Question Id : 54592722095 Question Type : MCQ Option Shuffling : Yes  
Correct Marks : 1 Wrong Marks : 0.25

Which reform or Act during the British rule in India has given separate electorate to Muslims?

Options :

- 1. ✖ Rowlatt Act
- 2. ✖ Pitt's Act
- 3. ✖ Montagu-Chelmsford Reforms
- 4. ✔ Morley-Minto Reforms

Question Number : 77 Question Id : 54592722095 Question Type : MCQ Option Shuffling : Yes  
Correct Marks : 1 Wrong Marks : 0.25

भारत में ब्रिटिश शासन के दौरान किस सुधार या अधिनियम ने मुसलमानों को अलग निर्वाचक मंडल दिया था?

Options :

- 1. ✖ रौलट एक्ट

2. ✖ पिट का अधिनियम
3. ✖ मोंटेग्यू-चेम्सफोर्ड सुधार
4. ✔ मोरली-मिंटो सुधार

Question Number : 78 Question Id : 54592722096 Question Type : MCQ Option Shuffling : Yes  
Correct Marks : 1 Wrong Marks : 0.25

Which Indian community established the first Cricket Club in India?

Options :

1. ✖ Hindu
2. ✖ Sikh
3. ✔ Parsi
4. ✖ Muslim

Question Number : 78 Question Id : 54592722096 Question Type : MCQ Option Shuffling : Yes  
Correct Marks : 1 Wrong Marks : 0.25

किस भारतीय समुदाय ने भारत में पहला क्रिकेट क्लब स्थापित किया था?

Options :

1. ✖ हिंदू
2. ✖ सिख
3. ✔ पारसी
4. ✖ मुस्लिम

Question Number : 79 Question Id : 54592722097 Question Type : MCQ Option Shuffling : Yes  
Correct Marks : 1 Wrong Marks : 0.25

How many players are there in water polo team?

Options :

1. ✖ 6
2. ✔ 7

3. ✖ 8

4. ✖ 9

Question Number : 79 Question Id : 54592722097 Question Type : MCQ Option Shuffling : Yes  
Correct Marks : 1 Wrong Marks : 0.25

वाटर पोलो टीम में कितने खिलाड़ी होते हैं?

Options :

1. ✖ 6

2. ✔ 7

3. ✖ 8

4. ✖ 9

Question Number : 80 Question Id : 54592722098 Question Type : MCQ Option Shuffling : Yes  
Correct Marks : 1 Wrong Marks : 0.25

In which city International Olympic Committee (IOC) opened its headquarters?

Options :

1. ✔ Lausanne

2. ✖ Geneva

3. ✖ Bern

4. ✖ Basel

Question Number : 80 Question Id : 54592722098 Question Type : MCQ Option Shuffling : Yes  
Correct Marks : 1 Wrong Marks : 0.25

किस शहर में अंतर्राष्ट्रीय ओलंपिक समिति (IOC) ने अपना मुख्यालय खोला है?

Options :

1. ✔ लौस्सन

2. ✖ जिनेवा

3. ✖ बर्न

4. ✖ बेसल

Arithmetic Ability1

Group Number :	5
Group Id :	5459271095
Group Maximum Duration :	0
Group Minimum Duration :	0
Show Attended Group? :	No
Edit Attended Group? :	No
Break time:	0
Group Marks:	20
Is this Group for Examiner?:	No
Revisit allowed for group Instructions? :	Yes
Maximum Instruction Time:	0
Minimum Instruction Time:	0

Arithmetic Ability1

Section Id :	5459271095
Section Number :	1
Section type :	Online
Mandatory or Optional:	Mandatory
Number of Questions:	20
Number of Questions to be attempted:	20
Section Marks:	20



Sub-Section Number:	1
Sub-Section Id:	5459271313
Question Shuffling Allowed :	Yes

Question Number : 81 Question Id : 54592722099 Question Type : MCQ Option Shuffling : Yes  
Correct Marks : 1 Wrong Marks : 0.25

**DIRECTIONS:** What should come in place of the question mark (?) in the following question?

$(0.5)^2 + (0.2)^2 + 2 \times (0.5)(0.2) = ?$

Options :

- 1. ✖ 0.94
- 2. ✖ 0.39
- 3. ✔ 0.49
- 4. ✖ 0.69

Question Number : 81 Question Id : 54592722099 Question Type : MCQ Option Shuffling : Yes  
Correct Marks : 1 Wrong Marks : 0.25

निर्देश: निम्नलिखित प्रश्न में प्रश्नवाचक चिन्ह (?) के स्थान पर क्या आना चाहिए?

$$(0.5)^2 + (0.2)^2 + 2 \times (0.5)(0.2) = ?$$

Options :

1. ✖ 0.94
2. ✖ 0.39
3. ✔ 0.49
4. ✖ 0.69

Question Number : 82 Question Id : 54592722100 Question Type : MCQ Option Shuffling : Yes  
Correct Marks : 1 Wrong Marks : 0.25

DIRECTION: What should come in place of the question mark (?) in the following question?

$$3 \times 0.3 \times 0.03 \times 0.003 \times 30 = ?$$

Options :

1. ✖ 0.0000243
2. ✖ 0.000243
3. ✔ 0.00243
4. ✖ 0.0243

Question Number : 82 Question Id : 54592722100 Question Type : MCQ Option Shuffling : Yes  
Correct Marks : 1 Wrong Marks : 0.25

निर्देश: निम्नलिखित प्रश्न में प्रश्नवाचक चिन्ह (?) के स्थान पर क्या आना चाहिए?

$$3 \times 0.3 \times 0.03 \times 0.003 \times 30 = ?$$

Options :

1. ✖ 0.0000243

2. ✖ 0.000243

3. ✔ 0.00243

4. ✖ 0.0243

Question Number : 83 Question Id : 54592722101 Question Type : MCQ Option Shuffling : Yes  
Correct Marks : 1 Wrong Marks : 0.25

**DIRECTIONS:** What should come in place of the question mark (?) in the following question?

$$\frac{3}{7} \text{ of } 413 + \frac{2}{5} \text{ of } 615 = ?$$

Options :

1. ✖ 541

2. ✔ 423

3. ✖ 792

4. ✖ 433

Question Number : 83 Question Id : 54592722101 Question Type : MCQ Option Shuffling : Yes  
Correct Marks : 1 Wrong Marks : 0.25

**निर्देश:** निम्नलिखित प्रश्न में प्रश्नवाचक चिन्ह (?) के स्थान पर क्या आना चाहिए?

$$\frac{3}{7} \text{ of } 413 + \frac{2}{5} \text{ of } 615 = ?$$

Options :

1. ✖ 541

2. ✔ 423

3. ✖ 792

4. ✖ 433

Question Number : 84 Question Id : 54592722102 Question Type : MCQ Option Shuffling : Yes  
Correct Marks : 1 Wrong Marks : 0.25

**DIRECTIONS:** What should come in place of the question mark (?) in the following question?

$$\frac{3}{5} \text{ of } \frac{5}{7} \text{ of } \frac{2}{9} \text{ of } 630 = ?$$

Options :

1. ✖ 90

2. ✖ 75

3. ✖ 45

4. ✔ 60

Question Number : 84 Question Id : 54592722102 Question Type : MCQ Option Shuffling : Yes

Correct Marks : 1 Wrong Marks : 0.25

निर्देश: निम्नलिखित प्रश्न में प्रश्नवाचक चिन्ह (?) के स्थान पर क्या आना चाहिए?

$$630 \text{ का } \frac{2}{9} \text{ का } \frac{5}{7} \text{ का } \frac{3}{5} = ?$$

Options :

1. ✖ 90

2. ✖ 75

3. ✖ 45

4. ✔ 60

Question Number : 85 Question Id : 54592722103 Question Type : MCQ Option Shuffling : Yes

Correct Marks : 1 Wrong Marks : 0.25

**DIRECTIONS:** What should come in place of the question mark (?) in the following question?

$$?^2 \times ?^6 \div \frac{3^4}{?^3} = 2243 - 2^6 + 8$$

Options :

1. ✖ 9

2. ✖ 27

3. ✔ 3

4. ✖  $3^{1/3}$

Question Number : 85 Question Id : 54592722103 Question Type : MCQ Option Shuffling : Yes

Correct Marks : 1 Wrong Marks : 0.25

निर्देश: निम्नलिखित प्रश्न में प्रश्नवाचक चिन्ह (?) के स्थान पर क्या आना चाहिए?

$$?^2 \times ?^6 \div \frac{3^4}{?^3} = 2243 - 2^6 + 8$$

Options :

1. ✖ 9

2. ✖ 27

3. ✔ 3

4. ✖  $3^{1/3}$

Question Number : 86 Question Id : 54592722104 Question Type : MCQ Option Shuffling : Yes  
Correct Marks : 1 Wrong Marks : 0.25

**DIRECTIONS:** What should come in place of the question mark (?) in the following question?

$$(\sqrt{14.44} - 2.5)^2 \div 1.69 = ?$$

Options :

1. ✔ 1

2. ✖ 1.5

3. ✖ 2.25

4. ✖ 24

Question Number : 86 Question Id : 54592722104 Question Type : MCQ Option Shuffling : Yes  
Correct Marks : 1 Wrong Marks : 0.25

**निर्देश:** निम्नलिखित प्रश्न में प्रश्नवाचक चिन्ह (?) के स्थान पर क्या आना चाहिए?

$$(\sqrt{14.44} - 2.5)^2 \div 1.69 = ?$$

Options :

1. ✔ 1

2. ✖ 1.5

3. ✖ 2.25

4. ✖ 24

Question Number : 87 Question Id : 54592722105 Question Type : MCQ Option Shuffling : Yes  
Correct Marks : 1 Wrong Marks : 0.25

LCM of  $\left(\frac{5}{6}, \frac{9}{10}, \frac{8}{9}\right)$  is:

Options :

1. ✖ 720
2. ✖ 1440
3. ✔ 360
4. ✖ 2880

Question Number : 87 Question Id : 54592722105 Question Type : MCQ Option Shuffling : Yes  
Correct Marks : 1 Wrong Marks : 0.25

$\left(\frac{5}{6}, \frac{9}{10}, \frac{8}{9}\right)$  का लघुतम समापवर्तक है:

Options :

1. ✖ 720
2. ✖ 1440
3. ✔ 360
4. ✖ 2880

Question Number : 88 Question Id : 54592722106 Question Type : MCQ Option Shuffling : Yes  
Correct Marks : 1 Wrong Marks : 0.25

Six bells toll together at a certain time and after that each keeps on tolling at an interval of 5, 10, 15, 20, 25, 30 seconds. After how many seconds will they toll together again?

Options :

1. ✖ 250
2. ✖ 240
3. ✔ 300
4. ✖ 600

Question Number : 88 Question Id : 54592722106 Question Type : MCQ Option Shuffling : Yes  
Correct Marks : 1 Wrong Marks : 0.25

छह घंटियाँ एक निश्चित समय पर एक साथ बजती हैं और उसके बाद प्रत्येक 5, 10, 15, 20, 25, 30 सेकंड के अंतराल पर बजती रहती हैं। कितने सेकंड के बाद वे फिर से एक साथ बजेंगे?

Options :

1. ✖ 250
2. ✖ 240
3. ✔ 300
4. ✖ 600

Question Number : 89 Question Id : 54592722107 Question Type : MCQ Option Shuffling : Yes

Correct Marks : 1 Wrong Marks : 0.25

19541742 is divisible by which of the following?

Options :

1. ✔ 11
2. ✖ 13
3. ✖ 9
4. ✖ 12

Question Number : 89 Question Id : 54592722107 Question Type : MCQ Option Shuffling : Yes

Correct Marks : 1 Wrong Marks : 0.25

19541742 निम्नलिखित में से किस से विभाज्य है?

Options :

1. ✔ 11
2. ✖ 13
3. ✖ 9
4. ✖ 12

Question Number : 90 Question Id : 54592722108 Question Type : MCQ Option Shuffling : Yes

Correct Marks : 1 Wrong Marks : 0.25

Which of the following is a prime number?

Options :

1. ✖ 437
2. ✖ 323

3. ✖ 567

4. ✔ 241

Question Number : 90 Question Id : 54592722108 Question Type : MCQ Option Shuffling : Yes  
Correct Marks : 1 Wrong Marks : 0.25

निम्नलिखित में से कौन सी एक अभ्याज संख्या है?

Options :

1. ✖ 437

2. ✖ 323

3. ✖ 567

4. ✔ 241

Question Number : 91 Question Id : 54592722109 Question Type : MCQ Option Shuffling : Yes  
Correct Marks : 1 Wrong Marks : 0.25

The average weight of Chintu, Chantu and Pintu is 26 kg. The average weight of Chintu, Chantu is 28 kg and The average weight of Pintu and Tintu is 23 kg. What is weight of Tintu ?

Options :

1. ✖ 21 kg

2. ✔ 24 kg

3. ✖ 25.5 kg

4. ✖ 28 kg

Question Number : 91 Question Id : 54592722109 Question Type : MCQ Option Shuffling : Yes  
Correct Marks : 1 Wrong Marks : 0.25

चिटू, चंटू और पिटू का औसत वजन 26 किलोग्राम है। चिटू, चंटू का औसत वजन 28 किलोग्राम और पिटू और टिटू का औसत वजन 23 किलोग्राम है। टिटू का वजन क्या है?

Options :

1. ✖ 21 किलोग्राम

2. ✓ 24 किलोग्राम
3. ✖ 25.5 किलोग्राम
4. ✖ 28 किलोग्राम

Question Number : 92 Question Id : 54592722110 Question Type : MCQ Option Shuffling : Yes  
Correct Marks : 1 Wrong Marks : 0.25

The average age of Raman, Suman and Mohan is 34 years. Five times the age of Mohan seven years ago was equal to four times the age of Suman five years ago. Three times the present age of Suman is equal to two times the present age of Raman. Find the age of Suman five years hence.

Options :

1. ✓ 35 years
2. ✖ 28 years
3. ✖ 39 years
4. ✖ 40 years

Question Number : 92 Question Id : 54592722110 Question Type : MCQ Option Shuffling : Yes  
Correct Marks : 1 Wrong Marks : 0.25

रमन, सुमन और मोहन की औसत आयु 34 वर्ष है। सात साल पहले मोहन की उम्र का पांच गुना , पांच साल पहले सुमन की उम्र के चार गुना के बराबर थी। सुमन की वर्तमान आयु का तीन गुना, रमन की वर्तमान आयु के दो गुना के बराबर है। पांच साल बाद सुमन की उम्र क्या होगी ?

Options :

1. ✓ 35 वर्ष
2. ✖ 28 वर्ष
3. ✖ 39 वर्ष
4. ✖ 40 वर्ष

Question Number : 93 Question Id : 54592722111 Question Type : MCQ Option Shuffling : Yes

Correct Marks : 1 Wrong Marks : 0.25

Marked prices of two mobiles are given in the ratio of 7:5. A shopkeeper gives  $28\frac{4}{7}\%$  discount on first mobile. If the total discount on two mobiles is 20%. Find the discount given by shopkeeper on second mobile?

Options :

1. ✖ 10 percent
2. ✖ 12.50 percent
3. ✖ 4 percent
4. ✔ 8 percent

Question Number : 93 Question Id : 54592722111 Question Type : MCQ Option Shuffling : Yes

Correct Marks : 1 Wrong Marks : 0.25

दो मोबाइलों की चिह्नित कीमतें 7 : 5 के अनुपात में हैं। एक दुकानदार पहले मोबाइल पर  $28\frac{4}{7}\%$  की छूट देता है। यदि दो मोबाइलों पर समग्र छूट 20% है। दूसरे मोबाइल पर दुकानदार द्वारा दी जाने वाली छूट का पता लगाएं।

Options :

1. ✖ 10 प्रतिशत
2. ✖ 12.50 प्रतिशत
3. ✖ 4 प्रतिशत
4. ✔ 8 प्रतिशत

Question Number : 94 Question Id : 54592722112 Question Type : MCQ Option Shuffling : Yes

Correct Marks : 1 Wrong Marks : 0.25

A person divide 41 % of his property among his three sons Rohit, Sunil and Anand in the ratio of 11 : 13 : 17. If the sum of the shares of Rohit and Sunil is Rs.72000. Find the remaining property of the person.

Options :

1. ✖ Rs. 3,00,000
2. ✖ Rs. 1,23,000

3. ✓ Rs. 1,77,000

4. ✗ Rs. 1,96,000

Question Number : 94 Question Id : 54592722112 Question Type : MCQ Option Shuffling : Yes  
Correct Marks : 1 Wrong Marks : 0.25

एक व्यक्ति अपनी संपत्ति का 41% अपने तीन बेटों रोहित, सुनील और आनंद में 11: 13: 17 के अनुपात में बांटता है। यदि रोहित और सुनील के शेयरों का योग 72000 रु .है। व्यक्ति की शेष संपत्ति ज्ञात कीजिए।

Options :

1. ✗ 3,00,000 रुपये

2. ✗ 1,23,000 रुपये

3. ✓ 1,77,000 रुपये

4. ✗ 1,96,000 रुपये

Question Number : 95 Question Id : 54592722113 Question Type : MCQ Option Shuffling : Yes  
Correct Marks : 1 Wrong Marks : 0.25

In an office,  $\frac{4}{7}$  of the employees are men. 40 % of the men and 60% of the women have 4 - wheeler. 40% of the men and m% of the women having 4 – wheeler are married. If 25% of total 4 – wheeler owner are married. What is the value of m?

Options :

1. ✗ 12.33

2. ✓ 11.66

3. ✗ 13.55

4. ✗ 9.09

Question Number : 95 Question Id : 54592722113 Question Type : MCQ Option Shuffling : Yes  
Correct Marks : 1 Wrong Marks : 0.25

एक कार्यालय में,  $\frac{4}{7}$  कर्मचारी पुरुष हैं। 40% पुरुषों और 60% महिलाओं के पास 4 - व्हीलर है। 40% पुरुष और m% महिला जिनके पास 4- व्हीलर है, विवाहित है। यदि कुल 25% 4 - व्हीलर मालिक विवाहित है। m का मान क्या है?

Options :

1. ✖ 12.33

2. ✔ 11.66

3. ✖ 13.55

4. ✖ 9.09

Question Number : 96 Question Id : 54592722114 Question Type : MCQ Option Shuffling : Yes  
Correct Marks : 1 Wrong Marks : 0.25

In basket B,  $8\frac{1}{3}\%$  more apples than that of basket A. In A,  $a\%$  apples are rotten and in B, 25% more rotten apples than A. If total rotten apples in both the basket together is 32.4%. Find the percentage of rotten apples in B.

Options :

1. ✔  $34\frac{8}{13}\%$

2. ✖  $30\frac{7}{13}\%$

3. ✖  $29\frac{11}{23}\%$

4. ✖  $38\frac{9}{23}\%$



Question Number : 96 Question Id : 54592722114 Question Type : MCQ Option Shuffling : Yes  
Correct Marks : 1 Wrong Marks : 0.25

टोकरी B में, टोकरी A की तुलना में  $8\frac{1}{3}\%$  अधिक सेब हैं। A में,  $a\%$  सेब सड़ा हुआ है और B में, A की तुलना में 25% अधिक सड़ा हुआ सेब है। यदि दोनों टोकरी में कुल सड़ा हुआ सेब 32.4% है। B में सड़े हुए सेब का प्रतिशत ज्ञात कीजिए।

Options :

1. ✔  $34\frac{8}{13}\%$

2. ✖  $30\frac{7}{13}\%$

3. ✖  $29\frac{11}{23}\%$

4. ✖  $38\frac{9}{23}\%$

Question Number : 97 Question Id : 54592722115 Question Type : MCQ Option Shuffling : Yes  
Correct Marks : 1 Wrong Marks : 0.25

A shopkeeper sells shirts in the scheme "Buy 2 Get 1 free" and earns a profit of  $33\frac{1}{3}\%$ . Find his profit % when he sells without this scheme.

Options :

1. ✖ 50 percent
2. ✖ 200 percent
3. ✖ 75 percent
4. ✔ 100 percent

Question Number : 97 Question Id : 54592722115 Question Type : MCQ Option Shuffling : Yes  
Correct Marks : 1 Wrong Marks : 0.25

एक दुकानदार "2 खरीदें 1 मुफ्त पाएं" योजना में शर्ट बेचता है और  $33\frac{1}{3}\%$  का लाभ कमाता है। इस योजना के बिना बेचने पर उसका लाभ% ज्ञात करें।

Options :

1. ✖ 50 प्रतिशत
2. ✖ 200 प्रतिशत
3. ✖ 75 प्रतिशत
4. ✔ 100 प्रतिशत

Question Number : 98 Question Id : 54592722116 Question Type : MCQ Option Shuffling : Yes  
Correct Marks : 1 Wrong Marks : 0.25

A man bought a bike and a car for Rs. 500000. He sold the bike at a gain of 20% and the car at a loss of 10%, thereby gaining 5% on whole. Find the cost of the bike?

Options :

- 1. ✖ Rs. 200000
- 2. ✔ Rs. 250000
- 3. ✖ Rs. 150000
- 4. ✖ Rs. 180000

Question Number : 98 Question Id : 54592722116 Question Type : MCQ Option Shuffling : Yes  
Correct Marks : 1 Wrong Marks : 0.25

एक व्यक्ति ने 500000 रुपये में एक बाईक और एक कार खरीदी। उसने बाईक को 20% लाभ और कार को 10% हानि पर बेचा और इस प्रकार इस पूरे सौदे में 5% का लाभ कमाया। बाईक का क्रय मूल्य ज्ञात करें?

Options :

- 1. ✖ 200000 रुपये
- 2. ✔ 250000 रुपये
- 3. ✖ 150000 रुपये
- 4. ✖ 180000 रुपये

Question Number : 99 Question Id : 54592722117 Question Type : MCQ Option Shuffling : Yes  
Correct Marks : 1 Wrong Marks : 0.25

A trader markup the article such that on selling it at the marked price, the profit is 70% of the selling price but he sells the article at 150% profit of the cost price. If the difference between two selling prices is Rs.1750. Find the selling price when it sold at 15% profit.

Options :

- 1. ✔ Rs.2415

2. ✖ Rs.2845

3. ✖ Rs.1255

4. ✖ Rs.2210

Question Number : 99 Question Id : 54592722117 Question Type : MCQ Option Shuffling : Yes

Correct Marks : 1 Wrong Marks : 0.25

एक व्यापारी एक वस्तु को इस तरह अंकित करता है कि उसे अंकित मूल्य पर बेचने पर लाभ, विक्रय मूल्य का 70% होता है लेकिन वह क्रय मूल्य के 150% लाभ पर वस्तु को बेचता है। यदि दो विक्रय मूल्यों के बीच अंतर 1750 रुपये है। 15% लाभ पर बेचने पर विक्रय मूल्य ज्ञात करें।

Options :

1. ✔ 2415 रुपये

2. ✖ 2845 रुपये

3. ✖ 1255 रुपये

4. ✖ 2210 रुपये

Question Number : 100 Question Id : 54592722118 Question Type : MCQ Option Shuffling : Yes

Correct Marks : 1 Wrong Marks : 0.25

The money with two persons Anil and Sunil are in the ratio of 3 : 4. Anil can spend money in 5 days and Sunil can spend money in 6 days. Both spend money with their constant rate. After how many days will their money be in the ratio of 9 : 20?

Options :

1. ✖ 1 day

2. ✖ 2 days

3. ✖ 3 days

4. ✔ 4 days

Question Number : 100 Question Id : 54592722118 Question Type : MCQ Option Shuffling : Yes  
Correct Marks : 1 Wrong Marks : 0.25

दो व्यक्तियों अनिल और सुनील के पास पैसा 3: 4 के अनुपात में है। अनिल 5 दिनों में पैसा खर्च कर सकता है और सुनील 6 दिनों में पैसा खर्च कर सकता है। दोनों अपनी निरंतर दर के साथ पैसा खर्च करते हैं। कितने दिनों के बाद उनका पैसा 9: 20 के अनुपात में होगा?

Options :

- 1. ✖ 1 दिन
- 2. ✖ 2 दिन
- 3. ✖ 3 दिन
- 4. ✔ 4 दिन

Arithmetic Ability2

Group Number :	6
Group Id :	5459271096
Group Maximum Duration :	0
Group Minimum Duration :	0
Show Attended Group? :	No
Edit Attended Group? :	No
Break time:	0
Group Marks:	20
Is this Group for Examiner?:	No
Revisit allowed for group Instructions? :	Yes
Maximum Instruction Time:	0
Minimum Instruction Time:	0

Arithmetic Ability2

Section Id :	5459271096
Section Number :	1
Section type :	Online
Mandatory or Optional:	Mandatory
Number of Questions:	20
Number of Questions to be attempted:	20
Section Marks:	20

Sub-Section Number: 1  
Sub-Section Id: 5459271314  
Question Shuffling Allowed : Yes

Question Number : 101 Question Id : 54592722119 Question Type : MCQ Option Shuffling : Yes  
Correct Marks : 1 Wrong Marks : 0.25

Four friends have money in the ratio of 17 : 20 : 23 : 26. Out of four, one of the persons has Rs.6000 more than the other and Rs.3000 less than the another. Find the total money with all four.

Options :

1. ✓ Rs.86000
2. ✗ Rs.43000
3. ✗ Rs.1,72,000
4. ✗ Rs.98000

Question Number : 101 Question Id : 54592722119 Question Type : MCQ Option Shuffling : Yes  
Correct Marks : 1 Wrong Marks : 0.25

चार दोस्तों के पास 17: 20: 23: 26 के अनुपात में पैसा है। चार में से एक व्यक्ति के पास अन्य की तुलना में 6000 रुपये ज्यादा और दूसरे की तुलना में 3000 कम है। चारों के पास कुल राशि ज्ञात कीजिए।

Options :

1. ✓ 86000 रुपये
2. ✗ 43000 रुपये
3. ✗ 1,72,000 रुपये
4. ✗ 98000 रुपये

Question Number : 102 Question Id : 54592722120 Question Type : MCQ Option Shuffling : Yes  
Correct Marks : 1 Wrong Marks : 0.25

Charan is 16 years younger than Amar, while Bharat is 10 years older than charan. The ratio of the age of charan 6 years hence and age of Bharat 14 years ago is 4 : 3. Find the present age of Amar.

Options :

- 1. ✓ 50 years
- 2. ✗ 44 years
- 3. ✗ 54 years
- 4. ✗ 62 years

Question Number : 102 Question Id : 54592722120 Question Type : MCQ Option Shuffling : Yes  
Correct Marks : 1 Wrong Marks : 0.25

चरण, अमर से 16 वर्ष छोटा है, जबकि भरत, चरण से 10 वर्ष बड़ा है।  
6 वर्ष बाद चरण की आयु का अनुपात और 14 वर्ष पूर्व भरत की आयु से 4 : 3 है। अमर की वर्तमान आयु ज्ञात कीजिए।

Options :

- 1. ✓ 50 वर्ष
- 2. ✗ 44 वर्ष
- 3. ✗ 54 वर्ष
- 4. ✗ 62 वर्ष

Question Number : 103 Question Id : 54592722121 Question Type : MCQ Option Shuffling : Yes  
Correct Marks : 1 Wrong Marks : 0.25

Two sums of money in the ratio of 4 : 5 are borrowed for a period of 5 years. The rate of interest on the two sums are in the ratio of 4 : 5 and the total simple interest on the two sums is Rs.12300. Find the difference in the simple interest on the two sums.

Options :

- 1. ✗ Rs.1500

2. ✖ Rs.3200

3. ✔ Rs.2700

4. ✖ Rs.1800

Question Number : 103 Question Id : 54592722121 Question Type : MCQ Option Shuffling : Yes

Correct Marks : 1 Wrong Marks : 0.25

4: 5 के अनुपात में दो धनराशियां का पैसा 5 साल की अवधि के लिए उधार ली जाती हैं। दोनों रकमों पर ब्याज की दर 4: 5 के अनुपात में है और दोनों रकमों पर कुल साधारण ब्याज 12300 रुपये है। दो राशियों पर साधारण ब्याज में अंतर का पता लगाएं।

Options :

1. ✖ 1500 रुपये

2. ✖ 3200 रुपये

3. ✔ 2700 रुपये

4. ✖ 1800 रुपये

Question Number : 104 Question Id : 54592722122 Question Type : MCQ Option Shuffling : Yes

Correct Marks : 1 Wrong Marks : 0.25

A sum of money is invested at 40% p.a. compound interest, compounded half-yearly. If the amount at the end of one and half years is Rs.2,16,000, then find the sum ?

Options :

1. ✖ Rs.1,10,000

2. ✔ Rs.1,25,000

3. ✖ Rs.1,50,000

4. ✖ Rs.1,40,000

Question Number : 104 Question Id : 54592722122 Question Type : MCQ Option Shuffling : Yes

Correct Marks : 1 Wrong Marks : 0.25

एक राशि का निवेश 40% चक्रवृद्धि ब्याज, जो हर 6 महीने में जो संयोजित किया जायेगा, पर किया जाता है। यदि डेढ़ वर्ष के अंत में राशि रूपयें 2,16,000 है, तो राशि ज्ञात कीजिए।

Options :

1. ✖ 1,10,000 रूपयें
2. ✔ 1,25,000 रूपयें
3. ✖ 1,50,000 रूपयें
4. ✖ 1,40,000 रूपयें

Question Number : 105 Question Id : 54592722123 Question Type : MCQ Option Shuffling : Yes

Correct Marks : 1 Wrong Marks : 0.25

Suraj borrowed a sum of money from Ajay at a certain rate of simple interest for two years and lent it to Vinay at same rate of compound interest compounded yearly for two years. At the end of two years he received C.I. of Rs.1230 and paid S.I. of Rs.1200. Find the sum and rate of interest.

Options :

1. ✔ Rs.12000, 5% p.a.
2. ✖ Rs.10000, 5% p.a.
3. ✖ Rs.15000, 8% p.a.
4. ✖ Rs.12000, 8% p.a.

Question Number : 105 Question Id : 54592722123 Question Type : MCQ Option Shuffling : Yes

Correct Marks : 1 Wrong Marks : 0.25

सूरज ने दो वर्ष के लिए साधारण ब्याज की एक निश्चित दर पर अजय से पैसा उधार लिया और दो वर्ष के लिए वार्षिक रूप से चक्रवृद्धि ब्याज : जो सालाना संयोजित किया जाता है, की समान दर पर विनय को उधार दिया। दो वर्ष के अंत में उसे चक्रवृद्धि ब्याज 1230 रुपये मिला और 1200 रुपये का साधारण ब्याज का भुगतान किया। ब्याज की राशि और दर ज्ञात कीजिए।

Options :

1. ✓ 12000 रुपये, 5% प्रति वर्ष
2. ✗ 10000 रुपये, 5% प्रति वर्ष
3. ✗ 15000 रुपये, 8% प्रति वर्ष
4. ✗ 12000 रुपये, 8% प्रति वर्ष

Question Number : 106 Question Id : 54592722124 Question Type : MCQ Option Shuffling : Yes

Correct Marks : 1 Wrong Marks : 0.25

In how much time will a car cover a distance of 9000 metre with a speed of 90 kmph.?

Options :

1. ✓ 0.1 Hour
2. ✗ 0.2 Hour
3. ✗ 0.3 Hour
4. ✗ 0.4 Hour

Question Number : 106 Question Id : 54592722124 Question Type : MCQ Option Shuffling : Yes

Correct Marks : 1 Wrong Marks : 0.25

कितने समय में एक कार 90 किमी प्रति घंटे की गति के साथ 9000 मीटर की दूरी को तय करेगी?

Options :

1. ✓ 0.1 घंटे
2. ✗ 0.2 घंटे

3. ✖ 0.3 घंटे

4. ✖ 0.4 घंटे

Question Number : 107 Question Id : 54592722125 Question Type : MCQ Option Shuffling : Yes

Correct Marks : 1 Wrong Marks : 0.25

The speed of a car is 2 times the speed of a passenger train. If the car travels at the speed of 85 kmph, what will be the difference in the time taken by the passenger train and the time taken by the car to cover 935 km.?

Options :

1. ✖ 5 hours

2. ✔ 11 hours

3. ✖ 22 hours

4. ✖ 8 hours

Question Number : 107 Question Id : 54592722125 Question Type : MCQ Option Shuffling : Yes

Correct Marks : 1 Wrong Marks : 0.25

एक कार की गति, एक पैसेंजर ट्रेन की गति की 2 गुनी है। यदि कार 85 किमी प्रति घंटे की गति से यात्रा करती है तो 935 किमी दूरी तय करने में पैसंजर ट्रेन और कार द्वारा लिए गए समय के बीच का अंतर कितना है?

Options :

1. ✖ 5 घंटे

2. ✔ 11 घंटे

3. ✖ 22 घंटे

4. ✖ 8 घंटे

Question Number : 108 Question Id : 54592722126 Question Type : MCQ Option Shuffling : Yes

Correct Marks : 1 Wrong Marks : 0.25

Two cars P and Q start at the same time from A and B which are 240 km apart. If the two cars travel in opposite directions, they meet after 2 hours and if they travel in the same direction (from A towards B) P meets Q after 8 hours. What is the speed of the car P?

Options :

- 1. ✖ 60 km/hr.
- 2. ✔ 75 km/hr.
- 3. ✖ 80 km/hr.
- 4. ✖ 70 km/hr.

Question Number : 108 Question Id : 54592722126 Question Type : MCQ Option Shuffling : Yes

Correct Marks : 1 Wrong Marks : 0.25

दो कार P और Q दो बिंदुओं क्रमशः A और B से एक ही समय चलती हैं जिनके बीच की दूरी 240 किमी. हैं। यदि दोनों कार परस्पर विपरीत दिशा में चलती हैं तो वे 2 घंटे बाद मिलते हैं और यदि दोनों कार एक ही दिशा में (A से B की तरफ) चलती हैं तो P, Q से 8 घंटे बाद मिलती है, कार P की गति क्या है?

Options :

- 1. ✖ 60 किमी/घंटा
- 2. ✔ 75 किमी/घंटा
- 3. ✖ 80 किमी/घंटा
- 4. ✖ 70 किमी/घंटा

Question Number : 109 Question Id : 54592722127 Question Type : MCQ Option Shuffling : Yes

Correct Marks : 1 Wrong Marks : 0.25

A finishes a work in 3 days, B finishes the same in 4 days and C in 5 days. They take turns to finish the work A on the first day, B on the second and C on the third day and then again A and so on. On which day will the work get over?

Options :

- 1. ✖ 3
- 2. ✖ 2
- 3. ✖ 5
- 4. ✔ 4

Question Number : 109 Question Id : 54592722127 Question Type : MCQ Option Shuffling : Yes  
Correct Marks : 1 Wrong Marks : 0.25

A एक कार्य को 3 दिन में पूरा करता है, B उसी कार्य को 4 दिन में और C, 5 दिन में पूरा करता है। वे बारी बारी से काम करते हैं, पहले दिन A, दूसरे दिन B और तीसरे दिन C और पुनः A इसी तरह आगे। कार्य किस दिन समाप्त होगा?

Options :

- 1. ✖ 3
- 2. ✖ 2
- 3. ✖ 5
- 4. ✔ 4

Question Number : 110 Question Id : 54592722128 Question Type : MCQ Option Shuffling : Yes  
Correct Marks : 1 Wrong Marks : 0.25

A spider climbs 10 metre of a pole in 20 minutes and slips down 2 metre at the very moment. If it takes 3 hours to climb on its top find the length of the pole.

Options :

- 1. ✔ 74 Metre
- 2. ✖ 72 Metre

3. ✖ 80 Metre

4. ✖ 90 Metre

Question Number : 110 Question Id : 54592722128 Question Type : MCQ Option Shuffling : Yes  
Correct Marks : 1 Wrong Marks : 0.25

एक मकड़ी 20 मिनट में एक पोल के ऊपर 10 मीटर तक चढ़ती है और उसी क्षण 2 मीटर नीचे आ जाती है। यदि पोल के शीर्ष पर चढ़ने में 3 घंटे लगते हैं तो पोल की लंबाई ज्ञात करें।

Options :

1. ✔ 74 मीटर

2. ✖ 72 मीटर

3. ✖ 80 मीटर

4. ✖ 90 मीटर

Question Number : 111 Question Id : 54592722129 Question Type : MCQ Option Shuffling : Yes  
Correct Marks : 1 Wrong Marks : 0.25

John can complete a work in 9 days, whereas John and Smith together can complete the same work in 6 days. How long will it take for Smith alone to complete the work?

Options :

1. ✖ 15 Days

2. ✔ 18 Days

3. ✖ 54 Days

4. ✖ 36 Days

Question Number : 111 Question Id : 54592722129 Question Type : MCQ Option Shuffling : Yes  
Correct Marks : 1 Wrong Marks : 0.25

जॉन किसी काम को 9 दिन में पूरा कर सकता है, जबकि स्मिथ और जॉन एक साथ मिलकर 6 दिन में ही काम को पूरा कर सकते हैं। स्मिथ को अकेले काम को पूरा करने में कितना समय लगेगा?

Options :

1. ✖ 15 दिन
2. ✔ 18 दिन
3. ✖ 54 दिन
4. ✖ 36 दिन

Question Number : 112 Question Id : 54592722130 Question Type : MCQ Option Shuffling : Yes  
Correct Marks : 1 Wrong Marks : 0.25

The dimensions of a hall are should it be 150 x 80 x 120 cm.  
How many persons can sit in the hall if each person requires 200 cube cm of air?

Options :

1. ✔ 7200
2. ✖ 7150
3. ✖ 7250
4. ✖ 7300

Question Number : 112 Question Id : 54592722130 Question Type : MCQ Option Shuffling : Yes  
Correct Marks : 1 Wrong Marks : 0.25

एक हॉल का आयाम (परिमाण) 150 x 80 x 120 cm है। यदि प्रत्येक व्यक्ति को 200 घन सेमी हवा की आवश्यकता होती है, कितने व्यक्ति हॉल में बैठ सकते हैं ?

Options :

1. ✔ 7200
2. ✖ 7150
3. ✖ 7250
4. ✖ 7300

Question Number : 113 Question Id : 54592722131 Question Type : MCQ Option Shuffling : Yes  
Correct Marks : 1 Wrong Marks : 0.25

A took 30 s to cross a rectangular field walking diagonally at the rate of 40 m / min and B took the same time to cross the same field along its sides walking at the rate of 56 m / min. The area of the field is:

Options :

- 1. ✖ 132 metre square
- 2. ✖ 172 metre square
- 3. ✔ 192 metre square
- 4. ✖ 154 metre square

Question Number : 113 Question Id : 54592722131 Question Type : MCQ Option Shuffling : Yes  
Correct Marks : 1 Wrong Marks : 0.25

A, एक आयताकार मैदान को विकर्णतः 40 मी/मिनट की गति पार करने में 30 सेकंड लेता है, और B, 56 मी./मिनट की गति से वर्ग की भुजा से होकर जाने में उतना ही समय लेता है। मैदान का क्षेत्रफल है:

Options :

- 1. ✖ 132 वर्ग मीटर
- 2. ✖ 172 मी वर्ग मीटर
- 3. ✔ 192 मी वर्ग मीटर
- 4. ✖ 154 वर्ग मीटर

Question Number : 114 Question Id : 54592722132 Question Type : MCQ Option Shuffling : Yes  
Correct Marks : 1 Wrong Marks : 0.25

The ratio of length and breadth of a rectangle is 5 : 2 and the perimeter is 70 cm. What is the area of the rectangle?

Options :

- 1. ✔ 250 sq cm
- 2. ✖ 400 sq cm
- 3. ✖ 200 sq cm

4. ✖ 150 sq cm

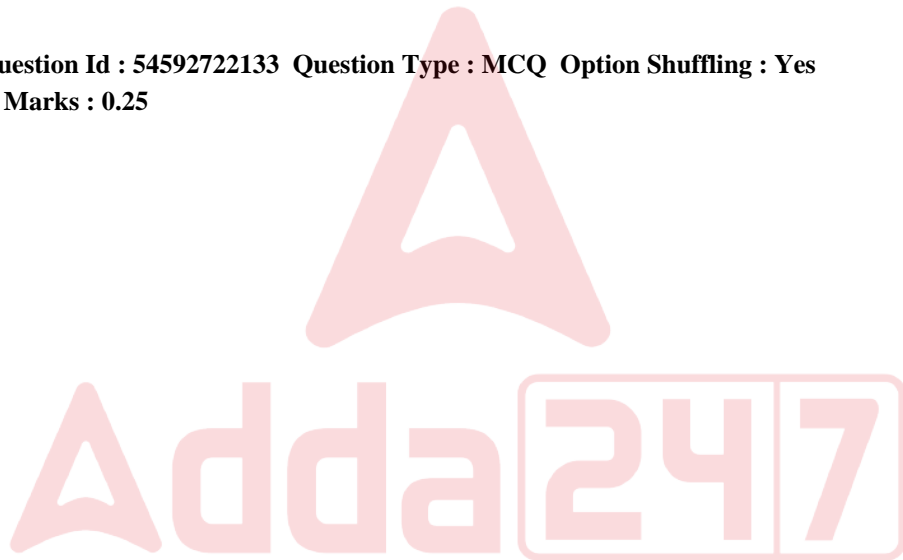
Question Number : 114 Question Id : 54592722132 Question Type : MCQ Option Shuffling : Yes  
Correct Marks : 1 Wrong Marks : 0.25

एक आयत की लम्बाई और चौड़ाई का अनुपात 5 : 2 है तथा परिधि 70 सेमी है। आयत का क्षेत्रफल कितना है?

Options :

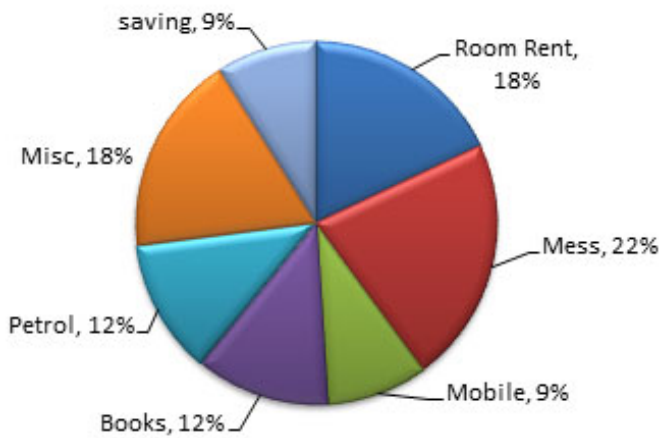
1. ✔ 250 वर्ग सेमी
2. ✖ 400 वर्ग सेमी
3. ✖ 200 वर्ग सेमी
4. ✖ 150 वर्ग सेमी

Question Number : 115 Question Id : 54592722133 Question Type : MCQ Option Shuffling : Yes  
Correct Marks : 1 Wrong Marks : 0.25

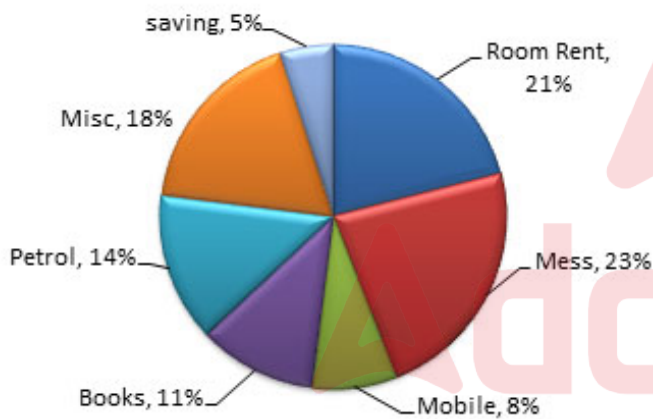


**DIRECTIONS :** Shubh and Shaurya are two friends who lives in a hostel. Shubh gets Rs.5000 as his pocket money per month and Shaurya gets 6000 as his pocket money per month. The expenses of Shubh and Shaurya are shown in pie chart.

**Expenses of Shubh**



**Expenses of Shaurya**



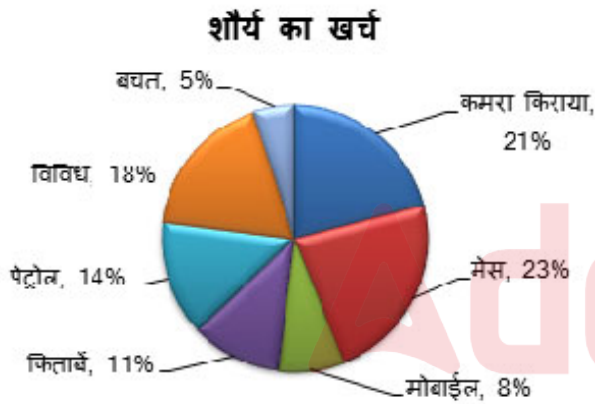
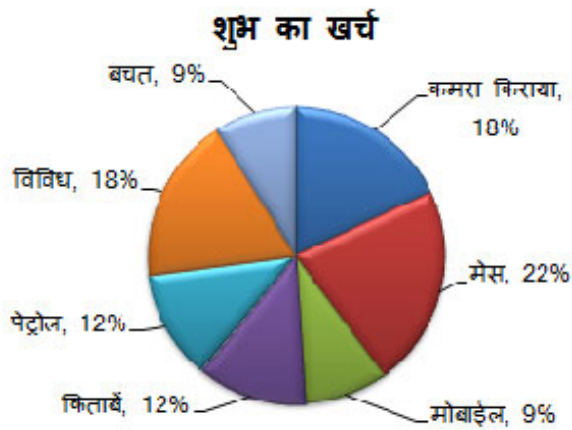
What is the difference between expenses made by Shubh and Shaurya on room rent and mess?

Options :

1. ✖ 784
2. ✖ 586
3. ✔ 640
4. ✖ 720

Correct Marks : 1 Wrong Marks : 0.25

निर्देश: शुभ और शौर्य दो दोस्त हैं, जो एक छात्रावास में रहते हैं। शुभ को प्रति माह अपनी पॉकेट मनी के रूप में 5000 रु. मिलते हैं और शौर्य को प्रति माह पॉकेट मनी के रूप में 6000 रु. मिलते हैं। शुभ और शौर्य के खर्च को वृत्त आरेख में दर्शाया गया है।



कमरे के किराये और मैस पर शुभ और शौर्य द्वारा किए गए औसत खर्चों के बीच कितना अंतर है?

Options :

1. ✖ 784
2. ✖ 586
3. ✔ 640
4. ✖ 720

Question Number : 116 Question Id : 54592722134 Question Type : MCQ Option Shuffling : Yes  
Correct Marks : 1 Wrong Marks : 0.25

**DIRECTIONS:** Study the table carefully and answer the following questions.

Number of washing machines and refrigerator manufactured by a company

Year	2005	2006	2007	2008	2009
Washing Machine	14400	20500	12800	16400	18600
Refrigerator	12800	24700	19200	20200	14900

Approximately what was the percent decrease in number of refrigerators manufactured in 2007 from 2006?

Options :

1. ✓ 22
2. ✗ 26
3. ✗ 28
4. ✗ 30

Question Number : 116 Question Id : 54592722134 Question Type : MCQ Option Shuffling : Yes  
Correct Marks : 1 Wrong Marks : 0.25

निर्देश: टेबल का अध्ययन कर निम्नलिखित प्रश्नों के उत्तर दीजिए-  
किसी कंपनी द्वारा निर्मित वाशिंग मशीन और रेफ्रिजरेटर की संख्या

वर्ष	2005	2006	2007	2008	2009
वाशिंग मशीन	14400	20500	12800	16400	18600
रेफ्रिजरेटर	12800	24700	19200	20200	14900

2007 में निर्मित रेफ्रिजरेटरों की संख्या 2006 में निर्मित संख्या से कितनी प्रतिशत काम थी?

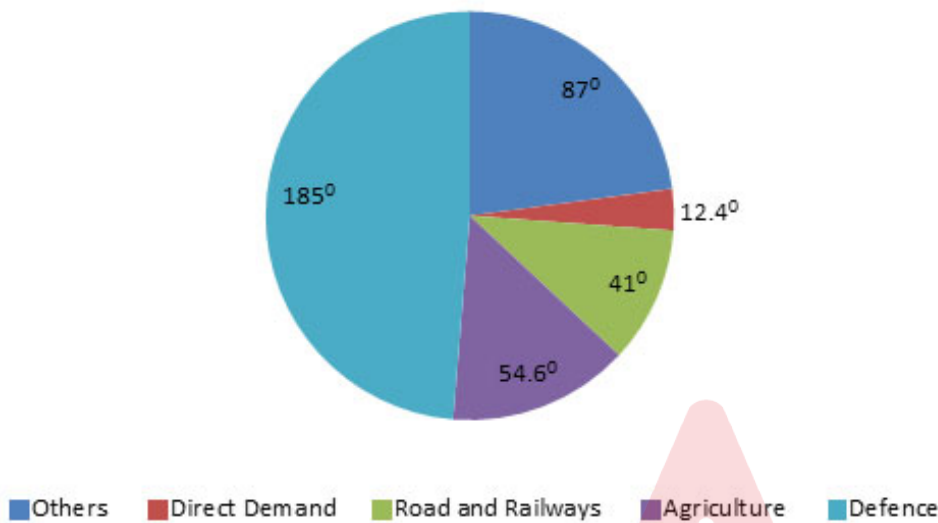
Options :

1. ✓ 22
2. ✗ 26
3. ✗ 28
4. ✗ 30

Question Number : 117 Question Id : 54592722135 Question Type : MCQ Option Shuffling : Yes  
Correct Marks : 1 Wrong Marks : 0.25

**DIRECTIONS:** The following pie chart shows budgetary allotments for different categories. Study the graph to answer the questions that follow.

**Budget**



Items displaying a ratio of nearly 1 : 15 are \_\_\_\_\_.

Options :

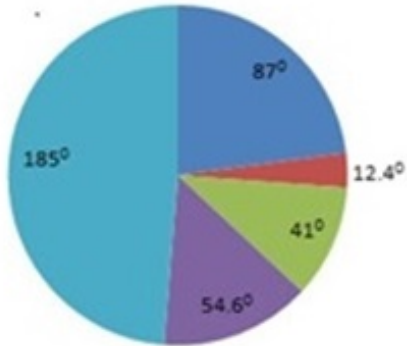
1. ✖ Defence and Direct demand
2. ✖ Roads and railways and defences
3. ✖ Direct demand and others
4. ✔ Direct demand and Defence

Question Number : 117 Question Id : 54592722135 Question Type : MCQ Option Shuffling : Yes

Correct Marks : 1 Wrong Marks : 0.25

निर्देश: निम्न पाई चार्ट विभिन्न श्रेणियों के लिए बजटीय आवंटन दर्शाता है। ग्राफ का अध्ययन कर प्रश्नों के उत्तर दें।

बजट



■ अन्य ■ प्रत्यक्ष मांग ■ सड़क और रेलवे ■ कृषि ■ रक्षा

प्रायः 1: 15 का अनुपात प्रदर्शित करने वाली वस्तुएं \_\_\_\_\_ हैं।

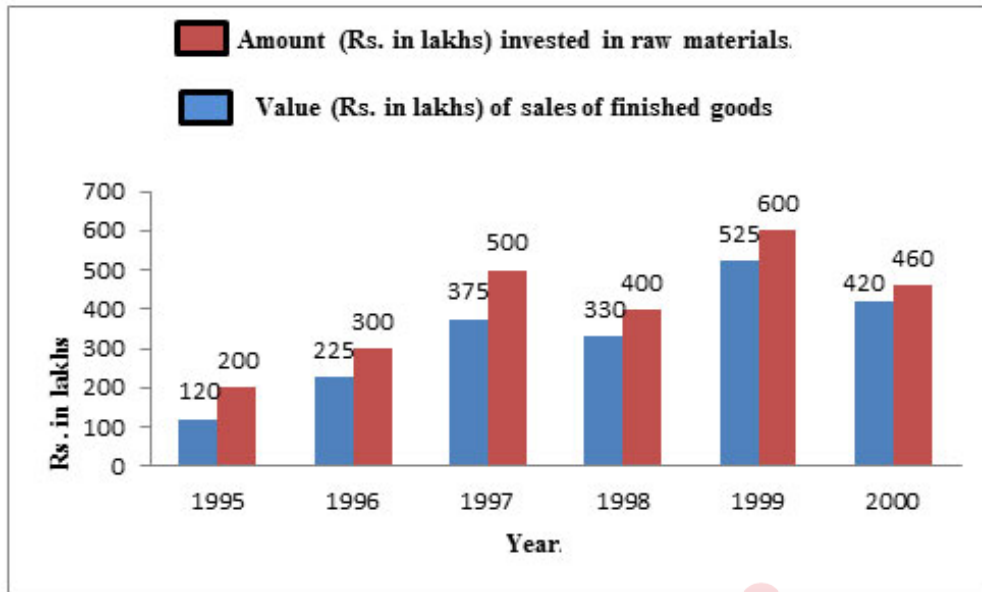
Options :

1. ✖ रक्षा और प्रत्यक्ष मांग
2. ✖ सड़क और रेलवे एवं रक्षा
3. ✖ प्रत्यक्ष मांग और अन्य
4. ✔ प्रत्यक्ष मांग और रक्षा

Question Number : 118 Question Id : 54592722136 Question Type : MCQ Option Shuffling : Yes

Correct Marks : 1 Wrong Marks : 0.25

**DIRECTION :** Study the following graph and answer the given questions.



In 1996, what percent increase in the amount invested in finished materials as compared to the previous year?

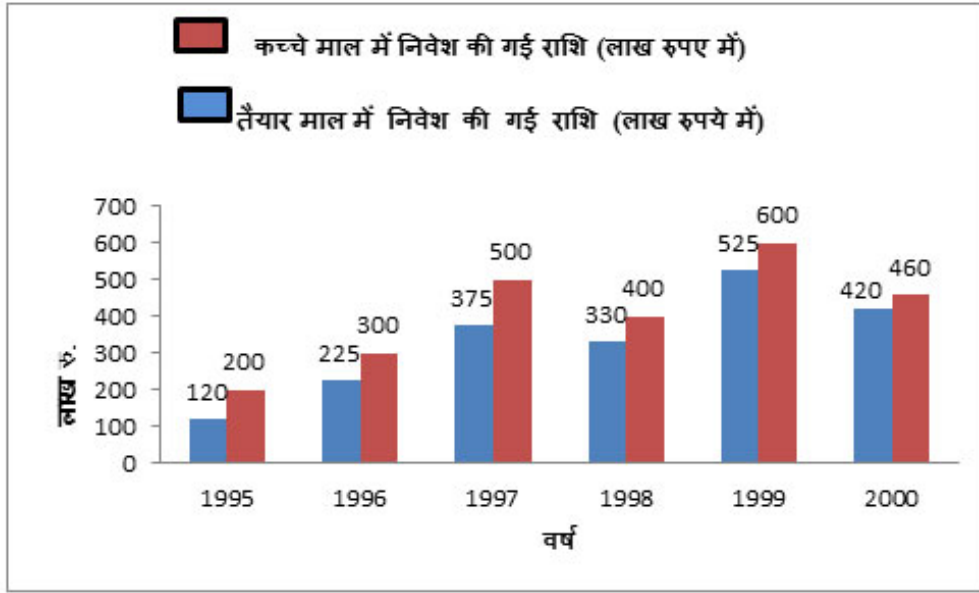
Options :

1. ✓ 87.50 percent
2. ✗ 50 percent
3. ✗ 62.50 percent
4. ✗ 82.50 percent

Question Number : 118 Question Id : 54592722136 Question Type : MCQ Option Shuffling : Yes

Correct Marks : 1 Wrong Marks : 0.25

निर्देश : निम्नलिखित ग्राफ को पढ़कर उत्तर दें:



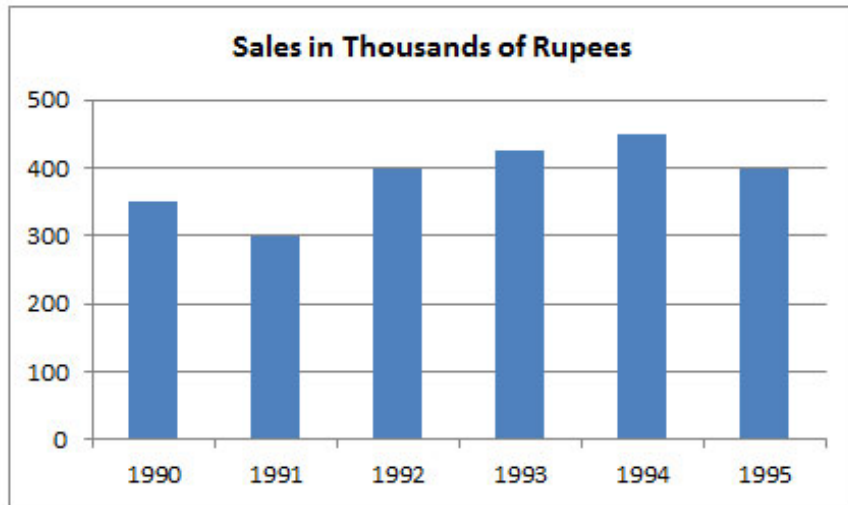
1996 में से पिछले वर्ष की तुलना में तैयार माल पर किये गये निवेश में कितनी प्रतिशत वृद्धि हुई?

Options :

1. ✓ 87.50 प्रतिशत
2. ✗ 50 प्रतिशत
3. ✗ 62.50 प्रतिशत
4. ✗ 82.50 प्रतिशत

Question Number : 119 Question Id : 54592722137 Question Type : MCQ Option Shuffling : Yes  
Correct Marks : 1 Wrong Marks : 0.25

Directions: The following questions are to be answered on the basis of sales turnover bar-chart for the years 1990 to 1995 given below:



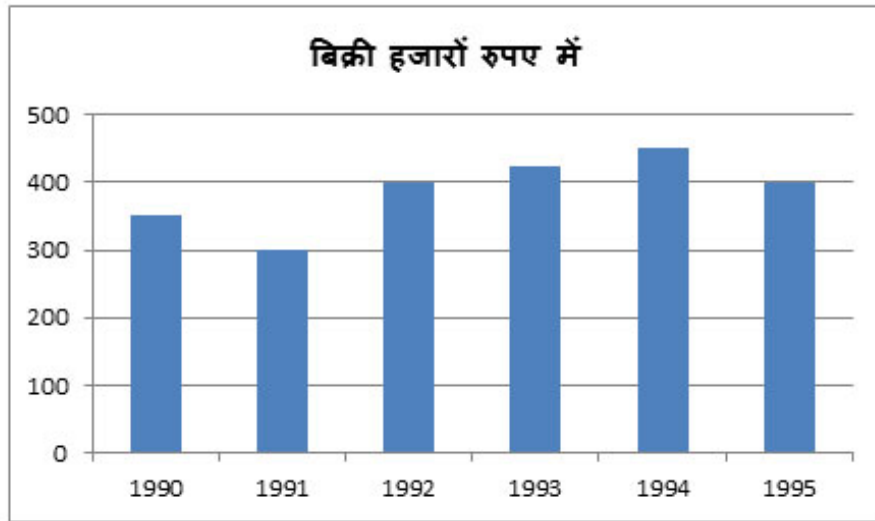
By what amount are the sales in 1995 more than those in 1991?

Options :

1. ✖ Rs. one hundred
2. ✖ Rs. ten thousand
3. ✔ Rs. one lakh
4. ✖ Rs. ten lakh

Question Number : 119 Question Id : 54592722137 Question Type : MCQ Option Shuffling : Yes  
Correct Marks : 1 Wrong Marks : 0.25

निर्देश: निम्नलिखित प्रश्नों के उत्तर, 1990 से 1995 के बीच दिए गए बिक्री टर्नओवर बार-चार्ट के आधार पर दिजिए।



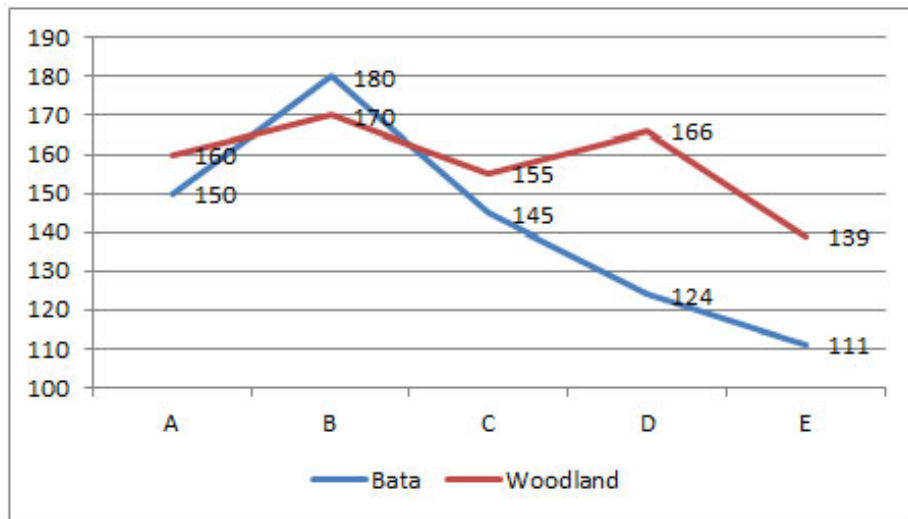
1991 की तुलना में बिक्री, 1995 में कितनी ज्यादा थी?

Options :

1. ✖ एक सौ रूपयें
2. ✖ दस हजार रूपयें
3. ✔ एक लाख रूपयें
4. ✖ दस लाख रूपयें

Question Number : 120 Question Id : 54592722138 Question Type : MCQ Option Shuffling : Yes  
Correct Marks : 1 Wrong Marks : 0.25

DIRECTIONS: following graph shows the number of Bata and Woodland shops in 5 cities of India.



What is the average number of Bata shops in all 5 cities together?

Options :

1. ✓ 142

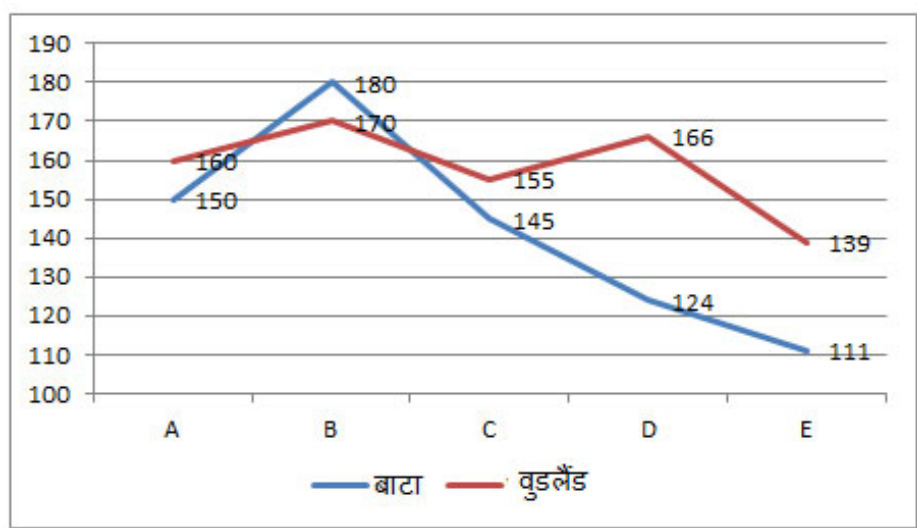
2. ✗ 135

3. ✗ 161

4. ✗ 137

Question Number : 120 Question Id : 54592722138 Question Type : MCQ Option Shuffling : Yes  
Correct Marks : 1 Wrong Marks : 0.25

निर्देश: निम्न आरेख भारत के पांच शहरों, बाटा और वुडलैंड दुकानों की संख्या को दर्शाता है।



सभी 5 शहरों में एक साथ बाटा की दुकानों की औसत संख्या कितनी है?

Options :

- 1. ✓ 142
- 2. ✗ 135
- 3. ✗ 161
- 4. ✗ 137

General English1

Group Number :	7
Group Id :	5459271097
Group Maximum Duration :	0
Group Minimum Duration :	0
Show Attended Group? :	No
Edit Attended Group? :	No
Break time:	0
Group Marks:	20
Is this Group for Examiner?:	No
Revisit allowed for group Instructions? :	Yes

Maximum Instruction Time: 0  
Minimum Instruction Time: 0

General English1

Section Id : 5459271097  
Section Number : 1  
Section type : Online  
Mandatory or Optional: Mandatory  
Number of Questions: 20  
Number of Questions to be attempted: 20  
Section Marks: 20

Sub-Section Number: 1  
Sub-Section Id: 5459271315  
Question Shuffling Allowed : Yes

Question Number : 121 Question Id : 54592722139 Question Type : MCQ Option Shuffling : Yes  
Correct Marks : 1 Wrong Marks : 0.25

Identify the segment in the sentence which contains the grammatical error from the given options.

Eyebrow movement playing a major role in human communication.

Options :

- 1. ✖ Eyebrow movement
- 2. ✔ playing
- 3. ✖ a major role
- 4. ✖ human communication

Question Number : 121 Question Id : 54592722139 Question Type : MCQ Option Shuffling : Yes  
Correct Marks : 1 Wrong Marks : 0.25

Identify the segment in the sentence which contains the grammatical error from the given options.

Eyebrow movement playing a major role in human communication.

Options :

1. ✖ Eyebrow movement
2. ✔ playing
3. ✖ a major role
4. ✖ human communication

Question Number : 122 Question Id : 54592722140 Question Type : MCQ Option Shuffling : Yes  
Correct Marks : 1 Wrong Marks : 0.25

Identify the segment in the sentence which contains the grammatical error from the given options.

A number of worldwide shark attacks has grown at a steady pace since 1900.

Note: For this question, discrepancy is found in question/answer. So, this question is ignored for all candidates.

Options :

1. A number of
2. worldwide
3. has grown
4. since 1900

Question Number : 122 Question Id : 54592722140 Question Type : MCQ Option Shuffling : Yes  
Correct Marks : 1 Wrong Marks : 0.25

Identify the segment in the sentence which contains the grammatical error from the given options.

A number of worldwide shark attacks has grown at a steady pace since 1900.

Note: For this question, discrepancy is found in question/answer. So, this question is ignored for all candidates.

Options :

1. A number of
2. worldwide
3. has grown
4. since 1900

Question Number : 123 Question Id : 54592722141 Question Type : MCQ Option Shuffling : Yes  
Correct Marks : 1 Wrong Marks : 0.25

Identify the segment in the sentence which contains the grammatical error from the given options.

If we doesn't plant trees, there may be nothing left for our children.

Options :

1. ✖ If we
2. ✔ doesn't plant
3. ✖ nothing
4. ✖ our children

Question Number : 123 Question Id : 54592722141 Question Type : MCQ Option Shuffling : Yes  
Correct Marks : 1 Wrong Marks : 0.25

Identify the segment in the sentence which contains the grammatical error from the given options.

If we doesn't plant trees, there may be nothing left for our children.

Options :

1. ✖ If we
2. ✔ doesn't plant
3. ✖ nothing
4. ✖ our children

Question Number : 124 Question Id : 54592722142 Question Type : MCQ Option Shuffling : Yes  
Correct Marks : 1 Wrong Marks : 0.25

Identify the segment in the sentence which contains the grammatical error from the given options.

In total, there were around six orcas spread off in groups of two or three

Options :

1. ✖ In total
2. ✖ were around
3. ✔ spread off
4. ✖ two or three

Question Number : 124 Question Id : 54592722142 Question Type : MCQ Option Shuffling : Yes  
Correct Marks : 1 Wrong Marks : 0.25

Identify the segment in the sentence which contains the grammatical error from the given options.

In total, there were around six orcas spread off in groups of two or three

Options :

1. ✖ In total
2. ✖ were around
3. ✔ spread off
4. ✖ two or three

Question Number : 125 Question Id : 54592722143 Question Type : MCQ Option Shuffling : Yes  
Correct Marks : 1 Wrong Marks : 0.25

Identify the segment in the sentence which contains the grammatical error from the given options.

Though leopards look fearsome, they avoid humans and can be tricky to spotting

Options :

1. ✖ Though
2. ✖ look fearsome
3. ✖ they avoid
4. ✔ to spotting

Question Number : 125 Question Id : 54592722143 Question Type : MCQ Option Shuffling : Yes  
Correct Marks : 1 Wrong Marks : 0.25

Identify the segment in the sentence which contains the grammatical error from the given options.

Though leopards look fearsome, they avoid humans and can be tricky to spotting

Options :

1. ✖ Though
2. ✖ look fearsome
3. ✖ they avoid
4. ✔ to spotting

Question Number : 126 Question Id : 54592722144 Question Type : MCQ Option Shuffling : Yes  
Correct Marks : 1 Wrong Marks : 0.25

Select the most appropriate option to substitute the underlined segment in the given sentence. If there is no need to substitute it, select option No substitution required.

The Samoan islands are fast sinking than expected due to global warming.

Options :

1. ✔ are sinking faster
2. ✖ is sinking fast
3. ✖ are fast sink
4. ✖ No substitution required

Question Number : 126 Question Id : 54592722144 Question Type : MCQ Option Shuffling : Yes  
Correct Marks : 1 Wrong Marks : 0.25

Select the most appropriate option to substitute the underlined segment in the given sentence. If there is no need to substitute it, select option No substitution required.

The Samoan islands are fast sinking than expected due to global warming.

Options :

1. ✓ are sinking faster
2. ✗ is sinking fast
3. ✗ are fast sink
4. ✗ No substitution required

Question Number : 127 Question Id : 54592722145 Question Type : MCQ Option Shuffling : Yes  
Correct Marks : 1 Wrong Marks : 0.25

Select the most appropriate option to substitute the underlined segment in the given sentence. If there is no need to substitute it, elect option No substitution required.

Somehow, the sea turtles has survive the ice ages and the extinction event.

Options :

1. ✗ have survive
2. ✓ have survived
3. ✗ had been survive
4. ✗ No substitution required

Question Number : 127 Question Id : 54592722145 Question Type : MCQ Option Shuffling : Yes  
Correct Marks : 1 Wrong Marks : 0.25

Select the most appropriate option to substitute the underlined segment in the given sentence. If there is no need to substitute it, elect option No substitution required.

Somehow, the sea turtles has survive the ice ages and the extinction event.

Options :

1. ✖ have survive
2. ✔ have survived
3. ✖ had been survive
4. ✖ No substitution required

Question Number : 128 Question Id : 54592722146 Question Type : MCQ Option Shuffling : Yes  
Correct Marks : 1 Wrong Marks : 0.25

Select the most appropriate option to substitute the underlined segment in the given sentence. If there is no need to substitute it, elect option No substitution required.

The total number of plastic toothbrushes being produce, used, and throw away each year has grown steadily.

Options :

1. ✖ being produce, use ,and throw
2. ✖ been produced, used, and throw
3. ✔ being produced, used, and thrown
4. ✖ No substitution required

Question Number : 128 Question Id : 54592722146 Question Type : MCQ Option Shuffling : Yes  
Correct Marks : 1 Wrong Marks : 0.25

Select the most appropriate option to substitute the underlined segment in the given sentence. If there is no need to substitute it, elect option No substitution required.

The total number of plastic toothbrushes being produce, used, and throw away each year has grown steadily.

Options :

1. ✖ being produce, use ,and throw
2. ✖ been produced, used, and throw
3. ✔ being produced, used, and thrown
4. ✖ No substitution required

Question Number : 129 Question Id : 54592722147 Question Type : MCQ Option Shuffling : Yes  
Correct Marks : 1 Wrong Marks : 0.25

Select the most appropriate option to substitute the underlined segment in the given sentence. If there is no need to substitute it, elect option No substitution required.

Hyenas might have a bad reputation, but they are one of Africa's most successful predators.

Options :

1. ✖ more successful predators
2. ✖ much successful predator
3. ✖ most successful predator
4. ✔ No substitution required

Question Number : 129 Question Id : 54592722147 Question Type : MCQ Option Shuffling : Yes  
Correct Marks : 1 Wrong Marks : 0.25

Select the most appropriate option to substitute the underlined segment in the given sentence. If there is no need to substitute it, elect option No substitution required.

Hyenas might have a bad reputation, but they are one of Africa's most successful predators.

Options :

1. ✖ more successful predators
2. ✖ much successful predator
3. ✖ most successful predator
4. ✔ No substitution required

Question Number : 130 Question Id : 54592722148 Question Type : MCQ Option Shuffling : Yes  
Correct Marks : 1 Wrong Marks : 0.25

Select the most appropriate option to substitute the underlined segment in the given sentence. If there is no need to substitute it, elect option No substitution required.

Encounters with the big fish are rare, but it can be deadly.

Options :

1. ✔ but they can be
2. ✖ as they are
3. ✖ but it can't be
4. ✖ No substitution required

Question Number : 130 Question Id : 54592722148 Question Type : MCQ Option Shuffling : Yes  
Correct Marks : 1 Wrong Marks : 0.25

Select the most appropriate option to substitute the underlined segment in the given sentence. If there is no need to substitute it, elect option No substitution required.

Encounters with the big fish are rare, but it can be deadly.

Options :

1. ✓ but they can be
2. ✖ as they are
3. ✖ but it can't be
4. ✖ No substitution required

Question Number : 131 Question Id : 54592722149 Question Type : MCQ Option Shuffling : Yes  
Correct Marks : 1 Wrong Marks : 0.25

Select the most appropriate word to fill in the blank.

Every few yards, he digs a shallow hole in the rich, red soil and \_\_\_\_\_ the leafy sapling of an ebony tree.

Options :

1. ✓ plants
2. ✖ stocks
3. ✖ establish
4. ✖ introduce

Question Number : 131 Question Id : 54592722149 Question Type : MCQ Option Shuffling : Yes  
Correct Marks : 1 Wrong Marks : 0.25

Select the most appropriate word to fill in the blank.

Every few yards, he digs a shallow hole in the rich, red soil and \_\_\_\_\_ the leafy sapling of an ebony tree.

Options :

1. ✓ plants
2. ✗ stocks
3. ✗ establish
4. ✗ introduce

Question Number : 132 Question Id : 54592722150 Question Type : MCQ Option Shuffling : Yes

Correct Marks : 1 Wrong Marks : 0.25

Select the most appropriate word to fill in the blank.

Tiger and bull sharks are two species often found \_\_\_\_\_ the coast and are known to bite people.

Options :

1. ✗ in
2. ✓ along
3. ✗ across
4. ✗ aboard

Question Number : 132 Question Id : 54592722150 Question Type : MCQ Option Shuffling : Yes

Correct Marks : 1 Wrong Marks : 0.25

Select the most appropriate word to fill in the blank.

Tiger and bull sharks are two species often found \_\_\_\_\_ the coast and are known to bite people.

Options :

1. ✖ in
2. ✔ along
3. ✖ across
4. ✖ aboard

Question Number : 133 Question Id : 54592722151 Question Type : MCQ Option Shuffling : Yes  
Correct Marks : 1 Wrong Marks : 0.25

Select the most appropriate word to fill in the blank.

Photographers have been \_\_\_\_\_ to take iconic pictures of the world's highest mountain, the Mount Everest.

Options :

1. ✖ thrusting
2. ✖ defeating
3. ✔ striving
4. ✖ pushing

Question Number : 133 Question Id : 54592722151 Question Type : MCQ Option Shuffling : Yes  
Correct Marks : 1 Wrong Marks : 0.25

Select the most appropriate word to fill in the blank.

Photographers have been \_\_\_\_\_ to take iconic pictures of the world's highest mountain, the Mount Everest.

Options :

1. ✖ thrusting
2. ✖ defeating
3. ✔ striving
4. ✖ pushing

Question Number : 134 Question Id : 54592722152 Question Type : MCQ Option Shuffling : Yes  
Correct Marks : 1 Wrong Marks : 0.25

Select the most appropriate word to fill in the blank.

A study has found that dogs are uniquely skilled \_\_\_\_\_ understanding gestures.

Note: For this question, discrepancy is found in question/answer. So, this question is ignored for all candidates.

Options :

1. of
2. in
3. off
4. at

Question Number : 134 Question Id : 54592722152 Question Type : MCQ Option Shuffling : Yes  
Correct Marks : 1 Wrong Marks : 0.25

Select the most appropriate word to fill in the blank.

A study has found that dogs are uniquely skilled \_\_\_\_\_ understanding gestures.

Note: For this question, discrepancy is found in question/answer. So, this question is ignored for all candidates.

Options :

1. of
2. in
3. off
4. at

Question Number : 135 Question Id : 54592722153 Question Type : MCQ Option Shuffling : Yes  
Correct Marks : 1 Wrong Marks : 0.25

Select the most appropriate word to fill in the blank.

Lord Brummell became a symbol of a new masculine style, one that still \_\_\_\_\_ the way people dress today.

Options :

1. ✓ dictates
2. ✗ predict
3. ✗ observes
4. ✗ assigns

Question Number : 135 Question Id : 54592722153 Question Type : MCQ Option Shuffling : Yes  
Correct Marks : 1 Wrong Marks : 0.25

Select the most appropriate word to fill in the blank.

Lord Brummell became a symbol of a new masculine style, one that still \_\_\_\_\_ the way people dress today.

Options :

1. ✓ dictates
2. ✗ predict
3. ✗ observes
4. ✗ assigns

Question Number : 136 Question Id : 54592722154 Question Type : MCQ Option Shuffling : Yes  
Correct Marks : 1 Wrong Marks : 0.25

Select the most appropriate word to fill in the blank.

A tiny, old star, just 12 light-years away might \_\_\_\_\_ two rocky planets, astronomers and a new study has found.

Options :

1. ✗ supply

2. ✓ host

3. ✗ cluster

4. ✗ parade

Question Number : 136 Question Id : 54592722154 Question Type : MCQ Option Shuffling : Yes  
Correct Marks : 1 Wrong Marks : 0.25

Select the most appropriate word to fill in the blank.

A tiny, old star, just 12 light-years away might \_\_\_\_\_ two rocky planets, astronomers and a new study has found.

Options :

1. ✗ supply

2. ✓ host

3. ✗ cluster

4. ✗ parade

Question Number : 137 Question Id : 54592722155 Question Type : MCQ Option Shuffling : Yes  
Correct Marks : 1 Wrong Marks : 0.25

Select the most appropriate word to fill in the blank.

Images in the media can shape how people see each other, \_\_\_\_\_ to bias and consequences that impact us all.

Options :

1. ✗ lead

2. ✗ leads

3. ✓ leading

4. ✗ led

Question Number : 137 Question Id : 54592722155 Question Type : MCQ Option Shuffling : Yes  
Correct Marks : 1 Wrong Marks : 0.25

Select the most appropriate word to fill in the blank.

Images in the media can shape how people see each other, \_\_\_\_\_ to bias and consequences that impact us all.

Options :

1. ✖ lead
2. ✖ leads
3. ✔ leading
4. ✖ led

Question Number : 138 Question Id : 54592722156 Question Type : MCQ Option Shuffling : Yes

Correct Marks : 1 Wrong Marks : 0.25

Select the most appropriate word to fill in the blank.

No matter where you go and what type of safari you \_\_\_\_\_, timing is the key.

Options :

1. ✖ choosing
2. ✖ chosen
3. ✖ chose
4. ✔ choose

Question Number : 138 Question Id : 54592722156 Question Type : MCQ Option Shuffling : Yes

Correct Marks : 1 Wrong Marks : 0.25

Select the most appropriate word to fill in the blank.

No matter where you go and what type of safari you \_\_\_\_\_, timing is the key.

Options :

1. ✖ choosing
2. ✖ chosen
3. ✖ chose
4. ✔ choose

Question Number : 139 Question Id : 54592722157 Question Type : MCQ Option Shuffling : Yes  
Correct Marks : 1 Wrong Marks : 0.25

Rearrange the following sentences in their correct order to form a meaningful paragraph.

A: We have hunted them, snagged them, hit them with ships, and choked them with plastic bags.

B: The risks facing the seventh, Australia's flat back, are less clear.

C: And yet, somehow, these creatures survived ice ages and the extinction event that wiped out the dinosaurs.

D: As the world struggles with diversity loss, six of world's seven species of sea turtles are considered threatened or endangered.

Options :

1. ✔ ADBC
2. ✖ ABCD
3. ✖ DBCA
4. ✖ ACBD

Question Number : 139 Question Id : 54592722157 Question Type : MCQ Option Shuffling : Yes  
Correct Marks : 1 Wrong Marks : 0.25

Rearrange the following sentences in their correct order to form a meaningful paragraph.

A: We have hunted them, snagged them, hit them with ships, and choked them with plastic bags.

B: The risks facing the seventh, Australia's flat back, are less clear.

C: And yet, somehow, these creatures survived ice ages and the extinction event that wiped out the dinosaurs.

D: As the world struggles with diversity loss, six of world's seven species of sea turtles are considered threatened or endangered.

Options :

1. ✓ ADBC
2. ✗ ABCD
3. ✗ DBCA
4. ✗ ACBD

A sentence has four parts, rearrange the given parts so as to form a meaningful sentence.

- A: A day to celebrate all fathers
- B: what began as one woman's
- C: tribute to her dad, turned
- D: into a life-long mission for

Options :

- 1. ✖ ABCD
- 2. ✔ BCDA
- 3. ✖ BDCA
- 4. ✖ ADBC

Question Number : 140 Question Id : 54592722158 Question Type : MCQ Option Shuffling : Yes  
Correct Marks : 1 Wrong Marks : 0.25

A sentence has four parts, rearrange the given parts so as to form a meaningful sentence.

- A: A day to celebrate all fathers
- B: what began as one woman's
- C: tribute to her dad, turned
- D: into a life-long mission for

Options :

- 1. ✖ ABCD
- 2. ✔ BCDA
- 3. ✖ BDCA
- 4. ✖ ADBC

General English2

Group Number :	8
Group Id :	5459271098
Group Maximum Duration :	0
Group Minimum Duration :	0
Show Attended Group? :	No
Edit Attended Group? :	No
Break time:	0
Group Marks:	20
Is this Group for Examiner?:	No
Revisit allowed for group Instructions? :	Yes
Maximum Instruction Time:	0
Minimum Instruction Time:	0

General English2

Section Id :	5459271098
Section Number :	1
Section type :	Online
Mandatory or Optional:	Mandatory
Number of Questions:	16
Number of Questions to be attempted:	16
Section Marks:	20

Sub-Section Number:	1
Sub-Section Id:	5459271316
Question Shuffling Allowed :	Yes

Question Number : 141 Question Id : 54592722159 Question Type : MCQ Option Shuffling : Yes  
Correct Marks : 1 Wrong Marks : 0.25

Rearrange the following sentences in their correct order to form a meaningful paragraph.

A: At first, years ago, it was just an occasional piece of plastic trash that Kahi picked up on the beach cleanups.

B: But one day Kahi spotted something particularly surprising in the beach cleanup: a toothbrush.

C: A straw here, a takeout container there.

D: Now, in any given Hawaii beach cleanup, he says, it's not uncommon to pick up 20 or even 100 toothbrushes.

Options :

1. ✖ ABCD

2. ✖ CBAD

3. ✔ ACBD

4. ✖ CDBA

Rearrange the following sentences in their correct order to form a meaningful paragraph.

A: At first, years ago, it was just an occasional piece of plastic trash that Kahi picked up on the beach cleanups.

B: But one day Kahi spotted something particularly surprising in the beach cleanup: a toothbrush.

C: A straw here, a takeout container there.

D: Now, in any given Hawaii beach cleanup, he says, it's not uncommon to pick up 20 or even 100 toothbrushes.

Options :

1. ✖ ABCD
2. ✖ CBAD
3. ✔ ACBD
4. ✖ CDBA

Question Number : 142 Question Id : 54592722160 Question Type : MCQ Option Shuffling : Yes  
Correct Marks : 1 Wrong Marks : 0.25

Select the synonym of the given word.

Impolite

Options :

1. ✔ Rude
2. ✖ Fair

3. ✖ Reasonable

4. ✖ Humane

Question Number : 142 Question Id : 54592722160 Question Type : MCQ Option Shuffling : Yes  
Correct Marks : 1 Wrong Marks : 0.25

Select the synonym of the given word.

Impolite

Options :

1. ✔ Rude

2. ✖ Fair

3. ✖ Reasonable

4. ✖ Humane

Question Number : 143 Question Id : 54592722161 Question Type : MCQ Option Shuffling : Yes  
Correct Marks : 1 Wrong Marks : 0.25

Select the antonym of the given word.

Boost

Options :

1. ✖ Increase

2. ✔ Decline

3. ✖ Memorize

4. ✖ Exclude

Question Number : 143 Question Id : 54592722161 Question Type : MCQ Option Shuffling : Yes  
Correct Marks : 1 Wrong Marks : 0.25

Select the antonym of the given word.

Boost

Options :

1. ✖ Increase
2. ✔ Decline
3. ✖ Memorize
4. ✖ Exclude

Question Number : 144 Question Id : 54592722162 Question Type : MCQ Option Shuffling : Yes

Correct Marks : 1 Wrong Marks : 0.25

Select the synonym of the given word.

Remorse

Options :

1. ✖ Pleasure
2. ✖ Decency
3. ✔ Regret
4. ✖ Confidence

Question Number : 144 Question Id : 54592722162 Question Type : MCQ Option Shuffling : Yes

Correct Marks : 1 Wrong Marks : 0.25

Select the synonym of the given word.

Remorse

Options :

1. ✖ Pleasure
2. ✖ Decency
3. ✔ Regret
4. ✖ Confidence

Question Number : 145 Question Id : 54592722163 Question Type : MCQ Option Shuffling : Yes

Correct Marks : 1 Wrong Marks : 0.25

Select the antonym of the given word.

Imprison

Options :

1. ✓ Release
2. ✗ Enslave
3. ✗ Occupy
4. ✗ Compensate

Question Number : 145 Question Id : 54592722163 Question Type : MCQ Option Shuffling : Yes  
Correct Marks : 1 Wrong Marks : 0.25

Select the antonym of the given word.

Imprison

Options :

1. ✓ Release
2. ✗ Enslave
3. ✗ Occupy
4. ✗ Compensate

Question Number : 146 Question Id : 54592722164 Question Type : MCQ Option Shuffling : Yes  
Correct Marks : 1 Wrong Marks : 0.25

Select the synonym of the given word.

Bizarre

Options :

1. ✗ Similar
2. ✓ Unusual
3. ✗ Ordinary

#### 4. ✖ Dependable

Question Number : 146 Question Id : 54592722164 Question Type : MCQ Option Shuffling : Yes  
Correct Marks : 1 Wrong Marks : 0.25

Select the synonym of the given word.

Bizarre

Options :

1. ✖ Similar
2. ✔ Unusual
3. ✖ Ordinary
4. ✖ Dependable

Question Number : 147 Question Id : 54592722165 Question Type : MCQ Option Shuffling : Yes  
Correct Marks : 1 Wrong Marks : 0.25

Select the wrongly spelt word.

Options :

1. ✔ Impateint
2. ✖ Thoroughly
3. ✖ Fortunate
4. ✖ Particular

Question Number : 147 Question Id : 54592722165 Question Type : MCQ Option Shuffling : Yes  
Correct Marks : 1 Wrong Marks : 0.25

Select the wrongly spelt word.

Options :

1. ✔ Impateint
2. ✖ Thoroughly
3. ✖ Fortunate

#### 4. ✖ Particular

Question Number : 148 Question Id : 54592722166 Question Type : MCQ Option Shuffling : Yes

Correct Marks : 1 Wrong Marks : 0.25

Select the wrongly spelt word.

Options :

1. ✖ Specially

2. ✔ Expecially

3. ✖ Specialist

4. ✖ Specialization

Question Number : 148 Question Id : 54592722166 Question Type : MCQ Option Shuffling : Yes

Correct Marks : 1 Wrong Marks : 0.25

Select the wrongly spelt word.

Options :

1. ✖ Specially

2. ✔ Expecially

3. ✖ Specialist

4. ✖ Specialization

Question Number : 149 Question Id : 54592722167 Question Type : MCQ Option Shuffling : Yes

Correct Marks : 1 Wrong Marks : 0.25

Select the wrongly spelt word.

Options :

1. ✖ Summarize

2. ✖ Inhuman

3. ✔ Rediculous

4. ✖ Receptionist

Question Number : 149 Question Id : 54592722167 Question Type : MCQ Option Shuffling : Yes

Correct Marks : 1 Wrong Marks : 0.25

Select the wrongly spelt word.

Options :

1. ✖ Summarize
2. ✖ Inhuman
3. ✔ Rediculous
4. ✖ Receptionist

Question Number : 150 Question Id : 54592722168 Question Type : MCQ Option Shuffling : Yes

Correct Marks : 1 Wrong Marks : 0.25

Select the meaning of the given idiom.

A square deal

Options :

1. ✔ A fair and honest transaction
2. ✖ A false arrangement
3. ✖ A reasonable argument
4. ✖ Improper Conduct

Question Number : 150 Question Id : 54592722168 Question Type : MCQ Option Shuffling : Yes

Correct Marks : 1 Wrong Marks : 0.25

Select the meaning of the given idiom.

A square deal

Options :

1. ✔ A fair and honest transaction
2. ✖ A false arrangement
3. ✖ A reasonable argument
4. ✖ Improper Conduct

Question Number : 151 Question Id : 54592722169 Question Type : MCQ Option Shuffling : Yes

Correct Marks : 1 Wrong Marks : 0.25

Select the meaning of the given idiom.

In Black and White

Options :

1. ✖ In a copy of two
2. ✔ Written down or in print
3. ✖ Lacking imagination
4. ✖ In a verbal communication

Question Number : 151 Question Id : 54592722169 Question Type : MCQ Option Shuffling : Yes  
Correct Marks : 1 Wrong Marks : 0.25

Select the meaning of the given idiom.

In Black and White

Options :

1. ✖ In a copy of two
2. ✔ Written down or in print
3. ✖ Lacking imagination
4. ✖ In a verbal communication

Question Number : 152 Question Id : 54592722170 Question Type : MCQ Option Shuffling : Yes  
Correct Marks : 1 Wrong Marks : 0.25

Select the meaning of the given idiom.

A white elephant

Options :

1. ✖ A rare sight
2. ✖ A reasonable purchase
3. ✔ An expensive item that is troublesome or useless

4. ✖ A thing considered to be precious

Question Number : 152 Question Id : 54592722170 Question Type : MCQ Option Shuffling : Yes  
Correct Marks : 1 Wrong Marks : 0.25

Select the meaning of the given idiom.

A white elephant

Options :

1. ✖ A rare sight
2. ✖ A reasonable purchase
3. ✔ An expensive item that is troublesome or useless
4. ✖ A thing considered to be precious

Question Number : 153 Question Id : 54592722171 Question Type : MCQ Option Shuffling : Yes  
Correct Marks : 1 Wrong Marks : 0.25

Select the word which means the same as the group of words given.

A room or building in which dead bodies are kept

Options :

1. ✔ Mortuary
2. ✖ Obituary
3. ✖ Postmortem
4. ✖ Funeral

Question Number : 153 Question Id : 54592722171 Question Type : MCQ Option Shuffling : Yes  
Correct Marks : 1 Wrong Marks : 0.25

Select the word which means the same as the group of words given.

A room or building in which dead bodies are kept

Options :

1. ✓ Mortuary
2. ✗ Obituary
3. ✗ Postmortem
4. ✗ Funeral

Question Number : 154 Question Id : 54592722172 Question Type : MCQ Option Shuffling : Yes

Correct Marks : 1 Wrong Marks : 0.25

Select the word which means the same as the group of words given.

Extreme or irrational fear of the night or of darkness.

Options :

1. ✗ Acrophobia
2. ✓ Nyctophobia
3. ✗ Chronophobia
4. ✗ Hydrophobia

Question Number : 154 Question Id : 54592722172 Question Type : MCQ Option Shuffling : Yes

Correct Marks : 1 Wrong Marks : 0.25

Select the word which means the same as the group of words given.

Extreme or irrational fear of the night or of darkness.

Options :

1. ✖ Acrophobia
2. ✔ Nyctophobia
3. ✖ Chronophobia
4. ✖ Hydrophobia

Question Number : 155 Question Id : 54592722173 Question Type : MCQ Option Shuffling : Yes  
Correct Marks : 1 Wrong Marks : 0.25

Select the word which means the same as the group of words given.

An independent person or body officially appointed to settle a dispute.

Options :

1. ✖ Referee
2. ✖ Curator
3. ✔ Arbitrator
4. ✖ Amateur

Question Number : 155 Question Id : 54592722173 Question Type : MCQ Option Shuffling : Yes  
Correct Marks : 1 Wrong Marks : 0.25

Select the word which means the same as the group of words given.

An independent person or body officially appointed to settle a dispute.

Options :

1. ✖ Referee
2. ✖ Curator

3. ✓ Arbitrator

4. ✖ Amateur

Sub-Section Number: 2  
Sub-Section Id: 5459271317  
Question Shuffling Allowed : Yes

Question Id : 54592722174 Question Type : COMPREHENSION Sub Question Shuffling Allowed : Yes Group Comprehension Questions : No  
Question Numbers : (156 to 160)

Question Label : Comprehension



Answer the questions based on the following passage.

Global warming is the slow increase in the average temperature of the earth's atmosphere because an increased amount of the energy (heat) striking the earth from the sun is being trapped in the atmosphere and not radiated out into space.

The earth's atmosphere has always acted like a greenhouse to capture the sun's heat, ensuring that the earth has enjoyed temperatures that permitted the emergence of life forms as we know them, including humans.

Without our atmospheric greenhouse the earth would be very cold. Global warming, however, is the equivalent of a greenhouse with high efficiency reflective glass installed the wrong way around.

Ironically, the best evidence of this may come from a terrible cooling event that took place some 1,500 years ago. Two massive volcanic eruptions, one year after another placed so much black dust into the upper atmosphere that little sunlight could penetrate. Temperatures plummeted. Crops failed. People died of starvation and the Black Death started its march. As the dust slowly fell to earth, the sun was again able to warm the world and life returned to normal.

Today, we have the opposite problem. Today, the problem is not that too little sun warmth is reaching the earth, but that too much is being trapped in our atmosphere.

So much heat is being kept inside greenhouse earth that the temperature of the earth is going up faster than at any previous time in history. NASA provides an excellent course module on the science of global warming.

Sub questions

Question Number : 156 Question Id : 54592722175 Question Type : MCQ Option Shuffling : Yes  
Correct Marks : 1 Wrong Marks : 0.25

Select a suitable title for the given passage.

Options :

1. ✓ Understanding Global Warming
2. ✗ Climate change and its impact
3. ✗ The greenhouse gases
4. ✗ The Earth's Atmosphere

Question Number : 157 Question Id : 54592722176 Question Type : MCQ Option Shuffling : Yes  
Correct Marks : 1 Wrong Marks : 0.25

The passage describes 'opposite problem' as one of the following:

Options :

1. ✗ Too little sun warmth is reaching the earth
2. ✓ The fact that too much sun warmth is being trapped in earth's atmosphere
3. ✗ Temperature of the earth is low
4. ✗ The earth's atmosphere is stable.

Question Number : 158 Question Id : 54592722177 Question Type : MCQ Option Shuffling : Yes  
Correct Marks : 1 Wrong Marks : 0.25

The passage is most likely to be taken from:

Options :

1. ✗ A newspaper
2. ✗ A research publication
3. ✓ A science Journal
4. ✗ A weekly magazine

Question Number : 159 Question Id : 54592722178 Question Type : MCQ Option Shuffling : Yes  
Correct Marks : 1 Wrong Marks : 0.25

From the given options, choose the one that is most similar to the word 'Radiated' as used in the passage.

Options :

1. ✖ Propagate
2. ✖ Circulate
3. ✖ Broadcast
4. ✔ Reflected

Question Number : 160 Question Id : 54592722179 Question Type : MCQ Option Shuffling : Yes  
Correct Marks : 1 Wrong Marks : 0.25

In the given passage, the earth's atmosphere is being compared to:

Options :

1. ✔ A greenhouse
2. ✖ A cooling agent
3. ✖ Volcanic eruptions
4. ✖ Black Dust

Question Id : 54592722174 Question Type : COMPREHENSION Sub Question Shuffling Allowed : Yes Group Comprehension Questions : No  
Question Numbers : (156 to 160)

Question Label : Comprehension

Answer the questions based on the following passage.

Global warming is the slow increase in the average temperature of the earth's atmosphere because an increased amount of the energy (heat) striking the earth from the sun is being trapped in the atmosphere and not radiated out into space.

The earth's atmosphere has always acted like a greenhouse to capture the sun's heat, ensuring that the earth has enjoyed temperatures that permitted the emergence of life forms as we know them, including humans.

Without our atmospheric greenhouse the earth would be very cold. Global warming, however, is the equivalent of a greenhouse with high efficiency reflective glass installed the wrong way around.

Ironically, the best evidence of this may come from a terrible cooling event that took place some 1,500 years ago.

Two massive volcanic eruptions, one year after another placed so much black dust into the upper atmosphere that little sunlight could penetrate. Temperatures plummeted.

Crops failed. People died of starvation and the Black Death started its march. As the dust slowly fell to earth, the sun was again able to warm the world and life returned to normal.

Today, we have the opposite problem. Today, the problem is not that too little sun warmth is reaching the earth, but that too much is being trapped in our atmosphere.

So much heat is being kept inside greenhouse earth that the temperature of the earth is going up faster than at any previous time in history. NASA provides an excellent course module on the science of global warming.

## Sub questions

Question Number : 156 Question Id : 54592722175 Question Type : MCQ Option Shuffling : Yes  
Correct Marks : 1 Wrong Marks : 0.25

Select a suitable title for the given passage.

Options :

1. ✓ Understanding Global Warming
2. ✗ Climate change and its impact
3. ✗ The greenhouse gases
4. ✗ The Earth's Atmosphere

Question Number : 157 Question Id : 54592722176 Question Type : MCQ Option Shuffling : Yes  
Correct Marks : 1 Wrong Marks : 0.25

The passage describes 'opposite problem' as one of the following:

Options :

1. ✗ Too little sun warmth is reaching the earth
2. ✓ The fact that too much sun warmth is being trapped in earth's atmosphere
3. ✗ Temperature of the earth is low
4. ✗ The earth's atmosphere is stable.

Question Number : 158 Question Id : 54592722177 Question Type : MCQ Option Shuffling : Yes  
Correct Marks : 1 Wrong Marks : 0.25

The passage is most likely to be taken from:

Options :

1. ✗ A newspaper
2. ✗ A research publication
3. ✓ A science Journal

4. ✖ A weekly magazine

Question Number : 159 Question Id : 54592722178 Question Type : MCQ Option Shuffling : Yes  
Correct Marks : 1 Wrong Marks : 0.25

From the given options, choose the one that is most similar to the word ‘Radiated’ as used in the passage.

Options :

- 1. ✖ Propagate
- 2. ✖ Circulate
- 3. ✖ Broadcast
- 4. ✔ Reflected

Question Number : 160 Question Id : 54592722179 Question Type : MCQ Option Shuffling : Yes  
Correct Marks : 1 Wrong Marks : 0.25

In the given passage, the earth’s atmosphere is being compared to:

Options :

- 1. ✔ A greenhouse
- 2. ✖ A cooling agent
- 3. ✖ Volcanic eruptions
- 4. ✖ Black Dust

### General Hindi1

Group Number :	9
Group Id :	5459271099
Group Maximum Duration :	0
Group Minimum Duration :	0
Show Attended Group? :	No
Edit Attended Group? :	No
Break time:	0
Group Marks:	20
Is this Group for Examiner?:	No

Revisit allowed for group Instructions? : Yes  
Maximum Instruction Time: 0  
Minimum Instruction Time: 0

## General Hindi1

Section Id : 5459271099  
Section Number : 1  
Section type : Online  
Mandatory or Optional: Mandatory  
Number of Questions: 20  
Number of Questions to be attempted: 20  
Section Marks: 20

Sub-Section Number: 1  
Sub-Section Id: 5459271318  
Question Shuffling Allowed : Yes

Question Number : 161 Question Id : 54592722180 Question Type : MCQ Option Shuffling : Yes  
Correct Marks : 1 Wrong Marks : 0.25

निम्नलिखित में से 'कबड्डी' किस वर्ग का शब्द है?

Options :

1. ✖ तत्सम
2. ✖ तद्भव
3. ✔ देशज
4. ✖ विदेशी

Question Number : 161 Question Id : 54592722180 Question Type : MCQ Option Shuffling : Yes  
Correct Marks : 1 Wrong Marks : 0.25

निम्नलिखित में से 'कबड्डी' किस वर्ग का शब्द है?

Options :

1. ✖ तत्सम
2. ✖ तद्भव
3. ✔ देशज
4. ✖ विदेशी

Question Number : 162 Question Id : 54592722181 Question Type : MCQ Option Shuffling : Yes  
Correct Marks : 1 Wrong Marks : 0.25

जमाखोरी' शब्द में प्रत्यय है।

Options :

1. ✖ ई
2. ✖ री
3. ✔ खोरी
4. ✖ ओरी

Question Number : 162 Question Id : 54592722181 Question Type : MCQ Option Shuffling : Yes

Correct Marks : 1 Wrong Marks : 0.25

जमाखोरी' शब्द में प्रत्यय है।

Options :

1. ✖ ई
2. ✖ री
3. ✔ खोरी
4. ✖ ओरी

Question Number : 163 Question Id : 54592722182 Question Type : MCQ Option Shuffling : Yes

Correct Marks : 1 Wrong Marks : 0.25

'सन्मार्ग' में कौन-सी सन्धि है?

Options :

1. ✖ स्वर सन्धि
2. ✔ व्यंजन सन्धि
3. ✖ विसर्ग सन्धि
4. ✖ गुण सन्धि

Question Number : 163 Question Id : 54592722182 Question Type : MCQ Option Shuffling : Yes

Correct Marks : 1 Wrong Marks : 0.25

'सन्मार्ग' में कौन-सी सन्धि है?

Options :

1. ✖ स्वर सन्धि
2. ✔ व्यंजन सन्धि

3. \* विसर्ग सन्धि

4. \* गुण सन्धि

Question Number : 164 Question Id : 54592722183 Question Type : MCQ Option Shuffling : Yes

Correct Marks : 1 Wrong Marks : 0.25

तिरंगा' शब्द में समास है।

Options :

1. \* द्वन्द्व समास

2. \* अव्ययी भाव समास

3. ✓ द्विगु समास

4. \* कर्मधारय समास

Question Number : 164 Question Id : 54592722183 Question Type : MCQ Option Shuffling : Yes

Correct Marks : 1 Wrong Marks : 0.25

तिरंगा' शब्द में समास है।

Options :

1. \* द्वन्द्व समास

2. \* अव्ययी भाव समास

3. ✓ द्विगु समास

4. \* कर्मधारय समास

Question Number : 165 Question Id : 54592722184 Question Type : MCQ Option Shuffling : Yes

Correct Marks : 1 Wrong Marks : 0.25

पुरुष' \_\_\_\_\_ संज्ञा है।

Options :

1. ✓ जातिवाचक संज्ञा

2. \* भाववाचक संज्ञा

3. \* समूहवाचक संज्ञा

4. \* द्रव्यवाचक संज्ञा

Question Number : 165 Question Id : 54592722184 Question Type : MCQ Option Shuffling : Yes

Correct Marks : 1 Wrong Marks : 0.25

पुरुष' \_\_\_\_\_ संज्ञा है।

Options :

1. ✓ जातिवाचक संज्ञा
2. ✗ भाववाचक संज्ञा
3. ✗ समूहवाचक संज्ञा
4. ✗ द्रव्यवाचक संज्ञा

Question Number : 166 Question Id : 54592722185 Question Type : MCQ Option Shuffling : Yes  
Correct Marks : 1 Wrong Marks : 0.25

निम्नलिखित में से किस शब्द का अर्थ 'प्रेम' है?

Options :

1. ✗ अलौकिक
2. ✗ सुखद
3. ✗ आकर
4. ✓ अनुराग

Question Number : 166 Question Id : 54592722185 Question Type : MCQ Option Shuffling : Yes  
Correct Marks : 1 Wrong Marks : 0.25

निम्नलिखित में से किस शब्द का अर्थ 'प्रेम' है?

Options :

1. ✗ अलौकिक
2. ✗ सुखद
3. ✗ आकर
4. ✓ अनुराग

Question Number : 167 Question Id : 54592722186 Question Type : MCQ Option Shuffling : Yes  
Correct Marks : 1 Wrong Marks : 0.25

भीति' शब्द का क्या अर्थ है?

Options :

1. ✗ भीतिरी
2. ✓ डर

3. ✖ दीवार

4. ✖ निडर

Question Number : 167 Question Id : 54592722186 Question Type : MCQ Option Shuffling : Yes  
Correct Marks : 1 Wrong Marks : 0.25

भीति' शब्द का क्या अर्थ है?

Options :

1. ✖ भीतिरी

2. ✔ डर

3. ✖ दीवार

4. ✖ निडर

Question Number : 168 Question Id : 54592722187 Question Type : MCQ Option Shuffling : Yes  
Correct Marks : 1 Wrong Marks : 0.25

निम्नलिखित में से 'पत्नी' का पर्यायवाची नहीं है?

Options :

1. ✖ सहधर्मिणी

2. ✖ भार्या

3. ✖ गृहिणी

4. ✔ तारिणी

Question Number : 168 Question Id : 54592722187 Question Type : MCQ Option Shuffling : Yes  
Correct Marks : 1 Wrong Marks : 0.25

निम्नलिखित में से 'पत्नी' का पर्यायवाची नहीं है?

Options :

1. ✖ सहधर्मिणी

2. ✖ भार्या

3. ✖ गृहिणी

4. ✔ तारिणी

Question Number : 169 Question Id : 54592722188 Question Type : MCQ Option Shuffling : Yes  
Correct Marks : 1 Wrong Marks : 0.25

अनुकूल का विलोम शब्द है?

Options :

1. ✖ व्याकुल
2. ✔ प्रतिकूल
3. ✖ आकूल
4. ✖ अनुकूलन

Question Number : 169 Question Id : 54592722188 Question Type : MCQ Option Shuffling : Yes

Correct Marks : 1 Wrong Marks : 0.25

अनुकूल का विलोम शब्द है?

Options :

1. ✖ व्याकुल
2. ✔ प्रतिकूल
3. ✖ आकूल
4. ✖ अनुकूलन

Question Number : 170 Question Id : 54592722189 Question Type : MCQ Option Shuffling : Yes

Correct Marks : 1 Wrong Marks : 0.25

उचित शब्द चुनकर रिक्त स्थान की पूर्ति कीजिए।

मैंने \_\_\_\_\_ (आँखों के सामने) वह भयानक दृश्य देखा।

Options :

1. ✖ समकक्ष
2. ✔ प्रत्यक्ष
3. ✖ प्रतिदृष्टि
4. ✖ आँख- सामने

Question Number : 170 Question Id : 54592722189 Question Type : MCQ Option Shuffling : Yes

Correct Marks : 1 Wrong Marks : 0.25

उचित शब्द चुनकर रिक्त स्थान की पूर्ति कीजिए।

मैंने \_\_\_\_\_ (आँखों के सामने) वह भयानक दृश्य देखा।

Options :

1. ✖ समकक्ष
2. ✔ प्रत्यक्ष
3. ✖ प्रतिदृष्टि
4. ✖ आँख- सामने

Question Number : 171 Question Id : 54592722190 Question Type : MCQ Option Shuffling : Yes

Correct Marks : 1 Wrong Marks : 0.25

निम्नलिखित चार विकल्पों में से (बेमेल) शब्द का चयन करें।

Options :

1. ✖ विहान
2. ✖ भोर
3. ✖ सुबह
4. ✔ दानव

Question Number : 171 Question Id : 54592722190 Question Type : MCQ Option Shuffling : Yes

Correct Marks : 1 Wrong Marks : 0.25

निम्नलिखित चार विकल्पों में से (बेमेल) शब्द का चयन करें।

Options :

1. ✖ विहान
2. ✖ भोर
3. ✖ सुबह
4. ✔ दानव

Question Number : 172 Question Id : 54592722191 Question Type : MCQ Option Shuffling : Yes

Correct Marks : 1 Wrong Marks : 0.25

मूक' का विलोम शब्द है:

Options :

1. ✖ जीवंत
2. ✖ आर्दश
3. ✔ वाचाल
4. ✖ भोगी

Question Number : 172 Question Id : 54592722191 Question Type : MCQ Option Shuffling : Yes  
Correct Marks : 1 Wrong Marks : 0.25

मूक' का विलोम शब्द है:

Options :

1. ✖ जीवंत
2. ✖ आर्दश
3. ✔ वाचाल
4. ✖ भोगी

Question Number : 173 Question Id : 54592722192 Question Type : MCQ Option Shuffling : Yes  
Correct Marks : 1 Wrong Marks : 0.25

इनमें से कौन-सा शब्द 'कनक' का पर्यायवाची नहीं है?

Options :

1. ✖ धतूरा
2. ✖ कंचन
3. ✖ स्वर्ण
4. ✔ प्रसून

Question Number : 173 Question Id : 54592722192 Question Type : MCQ Option Shuffling : Yes  
Correct Marks : 1 Wrong Marks : 0.25

इनमें से कौन-सा शब्द 'कनक' का पर्यायवाची नहीं है?

Options :

1. ✖ धतूरा
2. ✖ कंचन
3. ✖ स्वर्ण

4. ✓ प्रसून

Question Number : 174 Question Id : 54592722193 Question Type : MCQ Option Shuffling : Yes  
Correct Marks : 1 Wrong Marks : 0.25

बाड़वाग्नि' का क्या अर्थ है:

Options :

1. ✖ पेट की आग
2. ✖ जंगल की आग
3. ✓ समुद्र की आग
4. ✖ महल की आग

Question Number : 174 Question Id : 54592722193 Question Type : MCQ Option Shuffling : Yes  
Correct Marks : 1 Wrong Marks : 0.25

बाड़वाग्नि' का क्या अर्थ है:

Options :

1. ✖ पेट की आग
2. ✖ जंगल की आग
3. ✓ समुद्र की आग
4. ✖ महल की आग

Question Number : 175 Question Id : 54592722194 Question Type : MCQ Option Shuffling : Yes  
Correct Marks : 1 Wrong Marks : 0.25

निम्नलिखित में से कौन-सा एक युग्म समानार्थी है?

Options :

1. ✓ पत्थर-पाषाण
2. ✖ रात्रि-दिवस
3. ✖ लघु-गुरु
4. ✖ व्यक्ति-समाज

Question Number : 175 Question Id : 54592722194 Question Type : MCQ Option Shuffling : Yes  
Correct Marks : 1 Wrong Marks : 0.25

निम्नलिखित में से कौन-सा एक युग्म समानार्थी है?

Options :

1. ✓ पत्थर-पाषाण
2. ✗ रात्रि-दिवस
3. ✗ लघु-गुरु
4. ✗ व्यक्ति-समाज

Question Number : 176 Question Id : 54592722195 Question Type : MCQ Option Shuffling : Yes  
Correct Marks : 1 Wrong Marks : 0.25

निम्नलिखित में से कौन-सा शब्द एक पुल्लिंग है?

Options :

1. ✓ कपड़ा
2. ✗ हानि
3. ✗ नदी
4. ✗ टोपी

Question Number : 176 Question Id : 54592722195 Question Type : MCQ Option Shuffling : Yes  
Correct Marks : 1 Wrong Marks : 0.25

निम्नलिखित में से कौन-सा शब्द एक पुल्लिंग है?

Options :

1. ✓ कपड़ा
2. ✗ हानि
3. ✗ नदी
4. ✗ टोपी

Question Number : 177 Question Id : 54592722196 Question Type : MCQ Option Shuffling : Yes  
Correct Marks : 1 Wrong Marks : 0.25

निम्नलिखित में से किस शब्द का प्रयोग सदैव एकवचन में होता है?

Options :

1. ✗ प्राण
2. ✗ दर्शन
3. ✓ जनता

4. ✖ आँसू

Question Number : 177 Question Id : 54592722196 Question Type : MCQ Option Shuffling : Yes  
Correct Marks : 1 Wrong Marks : 0.25

निम्नलिखित में से किस शब्द का प्रयोग सदैव एकवचन में होता है?

Options :

1. ✖ प्राण

2. ✖ दर्शन

3. ✔ जनता

4. ✖ आँसू

Question Number : 178 Question Id : 54592722197 Question Type : MCQ Option Shuffling : Yes  
Correct Marks : 1 Wrong Marks : 0.25

सम्बन्ध कारक का चिन्ह है:

Options :

1. ✖ मे, पर

2. ✖ के, लिए

3. ✔ रा, री, रे

4. ✖ से

Question Number : 178 Question Id : 54592722197 Question Type : MCQ Option Shuffling : Yes  
Correct Marks : 1 Wrong Marks : 0.25

सम्बन्ध कारक का चिन्ह है:

Options :

1. ✖ मे, पर

2. ✖ के, लिए

3. ✔ रा, री, रे

4. ✖ से

Question Number : 179 Question Id : 54592722198 Question Type : MCQ Option Shuffling : Yes  
Correct Marks : 1 Wrong Marks : 0.25

सर्वनाम के भेद हैं:

Options :

1. ✓ छह:
2. ✖ पाँच
3. ✖ तीन
4. ✖ आठ

Question Number : 179 Question Id : 54592722198 Question Type : MCQ Option Shuffling : Yes  
Correct Marks : 1 Wrong Marks : 0.25

सर्वनाम के भेद हैं:

Options :

1. ✓ छह:
2. ✖ पाँच
3. ✖ तीन
4. ✖ आठ

Question Number : 180 Question Id : 54592722199 Question Type : MCQ Option Shuffling : Yes  
Correct Marks : 1 Wrong Marks : 0.25

जो विशेषण किसी वस्तु की मात्रा, वजन, नापतोल का बोध कराते है उन्हें कहा जाता है:

Options :

1. ✖ सर्वनामिक विशेषण
2. ✖ गुणवाचक विशेषण
3. ✓ परिमाणवाचक विशेषण
4. ✖ संख्यावाचक विशेषण

Question Number : 180 Question Id : 54592722199 Question Type : MCQ Option Shuffling : Yes  
Correct Marks : 1 Wrong Marks : 0.25

जो विशेषण किसी वस्तु की मात्रा, वजन, नापतोल का बोध कराते है उन्हें कहा जाता है:

Options :

1. ✖ सर्वनामिक विशेषण

2. ✖ गुणवाचक विशेषण
3. ✔ परिमाणवाचक विशेषण
4. ✖ संख्यावाचक विशेषण

## General Hindi2

Group Number :	10
Group Id :	5459271100
Group Maximum Duration :	0
Group Minimum Duration :	120
Show Attended Group? :	No
Edit Attended Group? :	No
Break time:	0
Group Marks:	20
Is this Group for Examiner?:	No
Revisit allowed for group Instructions? :	Yes
Maximum Instruction Time:	0
Minimum Instruction Time:	0

## General Hindi2

Section Id :	5459271100
Section Number :	1
Section type :	Online
Mandatory or Optional:	Mandatory
Number of Questions:	16
Number of Questions to be attempted:	16
Section Marks:	20

Sub-Section Number:	1
Sub-Section Id:	5459271319
Question Shuffling Allowed :	Yes

Question Number : 181 Question Id : 54592722200 Question Type : MCQ Option Shuffling : Yes  
Correct Marks : 1 Wrong Marks : 0.25

प, फ, ब, भ, म का उच्चारण है:

Options :

1. ✖ कंठ
2. ✔ ओष्ठ
3. ✖ तालू

4. ✖ दंत

Question Number : 181 Question Id : 54592722200 Question Type : MCQ Option Shuffling : Yes  
Correct Marks : 1 Wrong Marks : 0.25

प, फ, ब, भ, म का उच्चारण है:

Options :

1. ✖ कंठ

2. ✔ ओष्ठ

3. ✖ तालू

4. ✖ दंत

Question Number : 182 Question Id : 54592722201 Question Type : MCQ Option Shuffling : Yes  
Correct Marks : 1 Wrong Marks : 0.25

जैसा बोओगे वैसा काटोगे' यह वाक्य इनमें किस प्रकार का है?

Options :

1. ✖ सरल वाक्य

2. ✖ संयुक्त वाक्य

3. ✔ मिश्रित वाक्य

4. ✖ संदेहवाचक वाक्य

Question Number : 182 Question Id : 54592722201 Question Type : MCQ Option Shuffling : Yes  
Correct Marks : 1 Wrong Marks : 0.25

जैसा बोओगे वैसा काटोगे' यह वाक्य इनमें किस प्रकार का है?

Options :

1. ✖ सरल वाक्य

2. ✖ संयुक्त वाक्य

3. ✔ मिश्रित वाक्य

4. ✖ संदेहवाचक वाक्य

Question Number : 183 Question Id : 54592722202 Question Type : MCQ Option Shuffling : Yes  
Correct Marks : 1 Wrong Marks : 0.25

निम्नलिखित में से कौन-सा शुद्ध वाक्य है?

Options :

1. ✖ सम्प्रति वे कुलपति रह चुके हैं।
2. ✔ सम्प्रति वे कुलपति हैं।
3. ✖ सम्प्रति वह कुलपति रह चुके हैं।
4. ✖ सम्प्रति वो कुलपति रह चुके हैं।

Question Number : 183 Question Id : 54592722202 Question Type : MCQ Option Shuffling : Yes  
Correct Marks : 1 Wrong Marks : 0.25

निम्नलिखित में से कौन-सा शुद्ध वाक्य है?

Options :

1. ✖ सम्प्रति वे कुलपति रह चुके हैं।
2. ✔ सम्प्रति वे कुलपति हैं।
3. ✖ सम्प्रति वह कुलपति रह चुके हैं।
4. ✖ सम्प्रति वो कुलपति रह चुके हैं।

Question Number : 184 Question Id : 54592722203 Question Type : MCQ Option Shuffling : Yes  
Correct Marks : 1 Wrong Marks : 0.25

निम्नलिखित में से कौन-सा शुद्ध वाक्य है?

Options :

1. ✖ बेफजूल मत बोलो
2. ✖ बेफजूल न बोलो
3. ✔ फजूल मत बोलो
4. ✖ फजूल बोलो

Question Number : 184 Question Id : 54592722203 Question Type : MCQ Option Shuffling : Yes  
Correct Marks : 1 Wrong Marks : 0.25

निम्नलिखित में से कौन-सा शुद्ध वाक्य है?

Options :

1. ✖ बेफजूल मत बोलो
2. ✖ बेफजूल न बोलो
3. ✔ फजूल मत बोलो

## 4. ✖ फजूल बोलो

Question Number : 185 Question Id : 54592722204 Question Type : MCQ Option Shuffling : Yes

Correct Marks : 1 Wrong Marks : 0.25

निम्नलिखित में से 'कृपा' का बहुवचन रूप क्या होता है?

Options :

1. ✖ कृपाओं

2. ✔ कृपा

3. ✖ कृपाएँ

4. ✖ कृतज्ञता

Question Number : 185 Question Id : 54592722204 Question Type : MCQ Option Shuffling : Yes

Correct Marks : 1 Wrong Marks : 0.25

निम्नलिखित में से 'कृपा' का बहुवचन रूप क्या होता है?

Options :

1. ✖ कृपाओं

2. ✔ कृपा

3. ✖ कृपाएँ

4. ✖ कृतज्ञता

Question Number : 186 Question Id : 54592722205 Question Type : MCQ Option Shuffling : Yes

Correct Marks : 1 Wrong Marks : 0.25

निम्नलिखित में से 'कोयला' का बहुवचन रूप क्या होता है?

Options :

1. ✖ कोयले

2. ✖ कोएले

3. ✖ कोयलों

4. ✔ कोयला

Question Number : 186 Question Id : 54592722205 Question Type : MCQ Option Shuffling : Yes

Correct Marks : 1 Wrong Marks : 0.25

निम्नलिखित में से 'कोयला' का बहुवचन रूप क्या होता है?

Options :

1. ✖ कोयले
2. ✖ कोएले
3. ✖ कोयलों
4. ✔ कोयला

Question Number : 187 Question Id : 54592722206 Question Type : MCQ Option Shuffling : Yes  
Correct Marks : 1 Wrong Marks : 0.25

आप' कहाँ जा रहे हैं? अर्थ की दृष्टि से किस प्रकार का वाक्य है?

Options :

1. ✖ संदेह वाचक
2. ✔ प्रश्नवाचक
3. ✖ इच्छावाचक
4. ✖ विधिवाचक

Question Number : 187 Question Id : 54592722206 Question Type : MCQ Option Shuffling : Yes  
Correct Marks : 1 Wrong Marks : 0.25

आप' कहाँ जा रहे हैं? अर्थ की दृष्टि से किस प्रकार का वाक्य है?

Options :

1. ✖ संदेह वाचक
2. ✔ प्रश्नवाचक
3. ✖ इच्छावाचक
4. ✖ विधिवाचक

Question Number : 188 Question Id : 54592722207 Question Type : MCQ Option Shuffling : Yes  
Correct Marks : 1 Wrong Marks : 0.25

'आधा तीतर-आधा बटेर' लोकोक्ति का अर्थ क्या है?

Options :

1. ✔ बेतुका मेल
2. ✖ शादी में शामिल होना
3. ✖ भीड़ इकट्ठा करना

#### 4. ✖ अलग-अलग रहना

Question Number : 188 Question Id : 54592722207 Question Type : MCQ Option Shuffling : Yes  
Correct Marks : 1 Wrong Marks : 0.25

'आधा तीतर-आधा बटेर' लोकोक्ति का अर्थ क्या है?

Options :

1. ✔ बेटुका मेल
2. ✖ शादी में शामिल होना
3. ✖ भीड़ इकट्ठा करना
4. ✖ अलग-अलग रहना

Question Number : 189 Question Id : 54592722208 Question Type : MCQ Option Shuffling : Yes  
Correct Marks : 1 Wrong Marks : 0.25

'उल्टे बांस बरेली को' लोकोक्ति का अर्थ क्या है?

Options :

1. ✖ अपना कार्य करना
2. ✔ विपरीत कार्य करना
3. ✖ अपना कार्य दूसरे से करवाना
4. ✖ गुस्सा होना

Question Number : 189 Question Id : 54592722208 Question Type : MCQ Option Shuffling : Yes  
Correct Marks : 1 Wrong Marks : 0.25

'उल्टे बांस बरेली को' लोकोक्ति का अर्थ क्या है?

Options :

1. ✖ अपना कार्य करना
2. ✔ विपरीत कार्य करना
3. ✖ अपना कार्य दूसरे से करवाना
4. ✖ गुस्सा होना

Question Number : 190 Question Id : 54592722209 Question Type : MCQ Option Shuffling : Yes  
Correct Marks : 1 Wrong Marks : 0.25

'गाल फुलाना' मुहावरे का अर्थ क्या है?

Options :

1. ✖ डींग मारना
2. ✖ चालबाज
3. ✖ ललजित होना
4. ✔ रूठ जाना

Question Number : 190 Question Id : 54592722209 Question Type : MCQ Option Shuffling : Yes  
Correct Marks : 1 Wrong Marks : 0.25

'गाल फुलाना' मुहावरे का अर्थ क्या है?

Options :

1. ✖ डींग मारना
2. ✖ चालबाज
3. ✖ ललजित होना
4. ✔ रूठ जाना

Question Number : 191 Question Id : 54592722210 Question Type : MCQ Option Shuffling : Yes  
Correct Marks : 1 Wrong Marks : 0.25

'पौ बारह होना' मुहावरे का अर्थ क्या है?

Options :

1. ✖ रोटी रोटी छीनना
2. ✖ बहुत भूखा होना
3. ✔ खूब लाभ प्राप्त करना
4. ✖ हार कर भाग जाना

Question Number : 191 Question Id : 54592722210 Question Type : MCQ Option Shuffling : Yes  
Correct Marks : 1 Wrong Marks : 0.25

'पौ बारह होना' मुहावरे का अर्थ क्या है?

Options :

1. ✖ रोटी रोटी छीनना
2. ✖ बहुत भूखा होना
3. ✔ खूब लाभ प्राप्त करना

#### 4. ✖ हार कर भाग जाना

Question Number : 192 Question Id : 54592722211 Question Type : MCQ Option Shuffling : Yes

Correct Marks : 1 Wrong Marks : 0.25

इनमें से अर्द्धविराम कौन-सा चिन्ह है?

Options :

1. ✖ ,

2. ✖ ।

3. ✖ :

4. ✔ ;

Question Number : 192 Question Id : 54592722211 Question Type : MCQ Option Shuffling : Yes

Correct Marks : 1 Wrong Marks : 0.25

इनमें से अर्द्धविराम कौन-सा चिन्ह है?

Options :

1. ✖ ,

2. ✖ ।

3. ✖ :

4. ✔ ;

Question Number : 193 Question Id : 54592722212 Question Type : MCQ Option Shuffling : Yes

Correct Marks : 1 Wrong Marks : 0.25

जब किसी शब्द को अलग दर्शाना हो तो वहां \_\_\_\_\_ का प्रयोग किया जाता है।

Note: For this question, discrepancy is found in question/answer. So, this question is ignored for all candidates.

Options :

1. पूर्ण विराम चिन्ह/ उप विराम चिन्ह

2. प्रश्न चिन्ह

3. पूर्ण विराम

4. अवतरण चिन्ह

Question Number : 193 Question Id : 54592722212 Question Type : MCQ Option Shuffling : Yes

Correct Marks : 1 Wrong Marks : 0.25

जब किसी शब्द को अलग दर्शाना हो तो वहां \_\_\_\_\_ का प्रयोग किया जाता है।

Note: For this question, discrepancy is found in question/answer. So, this question is ignored for all candidates.

Options :

1. पूर्ण विराम चिन्ह/ उप विराम चिन्ह
2. प्रश्न चिन्ह
3. पूर्ण विराम
4. अवतरण चिन्ह

Question Number : 194 Question Id : 54592722213 Question Type : MCQ Option Shuffling : Yes

Correct Marks : 1 Wrong Marks : 0.25

हर्ष, विषाद, विस्मय, करुणा, घृणा, सम्बोधन, सूचक शब्दों के बाद प्रयुक्त होने वाला विराम चिन्ह कहलाता है:

Options :

1. \* योजक चिन्ह
2. \* प्रश्नवाचक चिन्ह
3. ✓ विस्मयादिवोधक चिन्ह
4. \* उद्धरण चिन्ह

Question Number : 194 Question Id : 54592722213 Question Type : MCQ Option Shuffling : Yes

Correct Marks : 1 Wrong Marks : 0.25

हर्ष, विषाद, विस्मय, करुणा, घृणा, सम्बोधन, सूचक शब्दों के बाद प्रयुक्त होने वाला विराम चिन्ह कहलाता है:

Options :

1. \* योजक चिन्ह
2. \* प्रश्नवाचक चिन्ह
3. ✓ विस्मयादिवोधक चिन्ह
4. \* उद्धरण चिन्ह

Question Number : 195 Question Id : 54592722214 Question Type : MCQ Option Shuffling : Yes

Correct Marks : 1 Wrong Marks : 0.25

इनमें से हंस पद कौन-सा है?

Options :

1. ✓ ^
2. ✗ " "
3. ✗ " " "
4. ✗ \_\_\_\_\_X\_\_\_\_\_

Question Number : 195 Question Id : 54592722214 Question Type : MCQ Option Shuffling : Yes  
Correct Marks : 1 Wrong Marks : 0.25

इनमें से हंस पद कौन-सा है?

Options :

1. ✓ ^
2. ✗ " "
3. ✗ " " "
4. ✗ \_\_\_\_\_X\_\_\_\_\_

Sub-Section Number: 2  
Sub-Section Id: 5459271320  
Question Shuffling Allowed : Yes

Question Id : 54592722215 Question Type : COMPREHENSION Sub Question Shuffling Allowed : Yes Group Comprehension  
Questions : No  
Question Numbers : (196 to 200)

Question Label : Comprehension

एक गद्यांश दिया गया है। गद्यांश के आधार पर पाँच प्रश्न दिए गए हैं। गद्यांश को ध्यानपूर्वक पढ़ें तथा प्रत्येक प्रश्न में चार विकल्पों में से सही विकल्प चुने।

‘श्रम’ आदर्श जीवन का मूल मंत्र है। हमारे ऋषि-मुनियों द्वारा प्रणीत वेद-शास्त्रों में श्रम के महत्व को स्वीकार किया है। श्रमशील महापुरुष का अमृत स्पर्श-छोटे-से-छोटे कार्य को बड़ा बना देता है। सृष्टि के प्रारंभ से लेकर आज तक मानव ने निरंतर परिश्रम करके ही अपने विकास का पथ प्रशस्त किया है। आज संसार में जो कुछ भी दिखाई दे रहा है, वह सतत परिश्रम का फल है। संसार के जितने भी उन्नत और समृद्धशाली देश हैं, उन सबके पीछे परिश्रम का ही आधार है। द्वितीय विश्व युद्ध ने जापान को लगभग तहस-नहस कर दिया था। उसके दो बड़े औद्योगिक नगर हिरोशिमा और नागासाकी अणु मार से खंडहर मात्र रह गये थे, पर आज जापान विश्व का सबसे अधिक संपन्न देश है क्यों? इसका सिर्फ एक उत्तर है सतत परिश्रम और प्रयास। संसार के महान से महान व्यक्ति ने अपना जीवन बहुत छोटे रूप से शुरू किया है, लेकिन जीवन भर अनथक परिश्रम कर वे उन्नति के चरम शिखर पर पहुँच गए। सत्य तो यह है कि संसार के बड़े और महान लोगों ने जीवन में छोटे से-छोटा समझा जाने वाला कार्य भी पूरी लगन और श्रद्धा से किया किया है। बोझ ढोने वाला कुली तनजिंग ही संसार की सबसे ऊँची चोटी एवरेस्ट पर विजय पताका फेहरा सकता है। सुभाषचन्द्र बोस, अब्राहम लिंकन, लेनिन, गांधी और संसार के असंख्य लोग निरंतर श्रम करके ही कहीं पहुँच सके हैं। किसी लेखक ने कहा है “यदि तुममें उद्योगी बनने की क्षमता है तो अपनी सारी शक्तियों को केन्द्रित कर अपने उद्देश्य की पूर्ति में निरत हो जाओ, बाधाओं और विरोधों से भयभीत मत रहो सफलता तुम्हारे चरण चूमेगी”।

Sub questions

Question Number : 196 Question Id : 54592722216 Question Type : MCQ Option Shuffling : Yes  
Correct Marks : 1 Wrong Marks : 0.25

बिना श्रम के सफलता चाहने वाले होते हैं:

Options :

1. ✖ भाग्यशाली
2. ✔ अकर्मण्य भाग्यशाली
3. ✖ कर्मवादी
4. ✖ अकर्मण्य कर्मवादी

Question Number : 197 Question Id : 54592722217 Question Type : MCQ Option Shuffling : Yes

Correct Marks : 1 Wrong Marks : 0.25

भारत का विकसित देशों में न होने का कारण है:

Options :

1. \* भौगोलिक दशा
2. \* राजनीतिक व्यवस्था
3. \* तकनीकी समस्याएं
4. ✓ श्रम के प्रति उदासीनता

Question Number : 198 Question Id : 54592722218 Question Type : MCQ Option Shuffling : Yes

Correct Marks : 1 Wrong Marks : 0.25

किसी भी क्षेत्र में सर्वोच्चता के लिए जरूरी है:

Options :

1. \* दूसरों का अनुकरण
2. \* आर्थिक सपन्नता
3. ✓ दृढ़ निश्चय एवं परिश्रम
4. \* धार्मिक विश्वास

Question Number : 199 Question Id : 54592722219 Question Type : MCQ Option Shuffling : Yes

Correct Marks : 1 Wrong Marks : 0.25

‘संपन्न’ का उचित विलोम शब्द है:

Options :

1. \* गरीब
2. \* निर्धन
3. \* अकिंचन
4. ✓ विपन्न

Question Number : 200 Question Id : 54592722220 Question Type : MCQ Option Shuffling : Yes

Correct Marks : 1 Wrong Marks : 0.25

‘आधार’ शब्द में प्रयुक्त ‘आ’ व्याकरणिक कोटि है:

Options :

1. \* प्रत्यय
2. ✓ उपसर्ग
3. \* कारक चिन्ह

## 4. ✖ पर्यावाची

Question Id : 54592722215 Question Type : COMPREHENSION Sub Question Shuffling Allowed : Yes Group Comprehension Questions : No

Question Numbers : (196 to 200)

Question Label : Comprehension



एक गद्यांश दिया गया है। गद्यांश के आधार पर पाँच प्रश्न दिए गए हैं। गद्यांश को ध्यानपूर्वक पढ़ें तथा प्रत्येक प्रश्न में चार विकल्पों में से सही विकल्प चुनें।

‘श्रम’ आदर्श जीवन का मूल मंत्र है। हमारे ऋषि-मुनियों द्वारा प्रणीत वेद-शास्त्रों में श्रम के महत्व को स्वीकार किया है। श्रमशील महापुरुष का अमृत स्पर्श-छोटे-से-छोटे कार्य को बड़ा बना देता है। सृष्टि के प्रारंभ से लेकर आज तक मानव ने निरंतर परिश्रम करके ही अपने विकास का पथ प्रशस्त किया है। आज संसार में जो कुछ भी दिखाई दे रहा है, वह सतत परिश्रम का फल है। संसार के जितने भी उन्नत और समृद्धशाली देश हैं, उन सबके पीछे परिश्रम का ही आधार है। द्वितीय विश्व युद्ध ने जापान को लगभग तहस-नहस कर दिया था। उसके दो बड़े औद्योगिक नगर हिरोशिमा और नागासाकी अणु मार से खंडहर मात्र रह गये थे, पर आज जापान विश्व का सबसे अधिक संपन्न देश है क्यों? इसका सिर्फ एक उत्तर है सतत परिश्रम और प्रयास। संसार के महान से महान व्यक्ति ने अपना जीवन बहुत छोटे रूप से शुरू किया है, लेकिन जीवन भर अनथक परिश्रम कर वे उन्नति के चरम शिखर पर पहुँच गए। सत्य तो यह है कि संसार के बड़े और महान लोगों ने जीवन में छोटे से-छोटा समझा जाने वाला कार्य भी पूरी लगन और श्रद्धा से किया किया है। बोझ ढोने वाला कुली तनजिंग ही संसार की सबसे ऊँची चोटी एवरेस्ट पर विजय पताका फेहरा सकता है। सुभाषचन्द्र बोस, अब्राहिम लिंकन, लेनिन, गांधी और संसार के असंख्य लोग निरंतर श्रम करके ही कहीं पहुँच सके हैं। किसी लेखक ने कहा है “यदि तुममें उद्योगी बनने की क्षमता है तो अपनी सारी शक्तियों को केन्द्रित कर अपने उद्देश्य की पूर्ति में निरत हो जाओ, बाधाओं और विरोधों से भयभीत मत रहो सफलता तुम्हारे चरण चूमेगी”।

Sub questions

Question Number : 196 Question Id : 54592722216 Question Type : MCQ Option Shuffling : Yes  
Correct Marks : 1 Wrong Marks : 0.25

बिना श्रम के सफलता चाहने वाले होते हैं:

Options :

1. ✖ भाग्यशाली
2. ✔ अकर्मण्य भाग्यशाली
3. ✖ कर्मवादी
4. ✖ अकर्मण्य कर्मवादी

Question Number : 197 Question Id : 54592722217 Question Type : MCQ Option Shuffling : Yes  
Correct Marks : 1 Wrong Marks : 0.25

भारत का विकसित देशों में न होने का कारण है:

Options :

1. ✖ भौगोलिक दशा
2. ✖ राजनीतिक व्यवस्था
3. ✖ तकनीकी समस्याएं
4. ✔ श्रम के प्रति उदासीनता

Question Number : 198 Question Id : 54592722218 Question Type : MCQ Option Shuffling : Yes  
Correct Marks : 1 Wrong Marks : 0.25

किसी भी क्षेत्र में सर्वोच्चता के लिए जरूरी है:

Options :

1. ✖ दूसरों का अनुकरण
2. ✖ आर्थिक सपन्नता
3. ✔ दृढ़ निश्चय एवं परिश्रम
4. ✖ धार्मिक विश्वास

Question Number : 199 Question Id : 54592722219 Question Type : MCQ Option Shuffling : Yes  
Correct Marks : 1 Wrong Marks : 0.25

‘संपन्न’ का उचित विलोम शब्द है:

Options :

1. ✖ गरीब
2. ✖ निर्धन
3. ✖ अकिंचन
4. ✔ विपन्न

Question Number : 200 Question Id : 54592722220 Question Type : MCQ Option Shuffling : Yes  
Correct Marks : 1 Wrong Marks : 0.25

‘आधार’ शब्द में प्रयुक्त ‘आ’ व्याकरणि कोटि है:

Options :

1. ✖ प्रत्यय
2. ✔ उपसर्ग
3. ✖ कारक चिन्ह
4. ✖ पर्यावाची

