

Constable Executive Male and Female in Delhi Police Examination 2023

Roll Number	
Candidate Name	
Venue Name	
Exam Date	21/11/2023
Exam Time	9:00 AM - 10:30 AM
Subject	Constable Executive Male and Female in Delhi Police Examination 2023

Section : General Knowledge

Q.1 चट्टानों के अध्ययन को क्या कहते हैं?

- Ans ☒ 1. शैल विज्ञान
- ☒ 2. फल विज्ञान
- ☒ 3. कवक विज्ञान
- ☒ 4. मृदा विज्ञान

Question ID : 264330134905
 Option 1 ID : 264330528556
 Option 2 ID : 264330528558
 Option 3 ID : 264330528555
 Option 4 ID : 264330528557
 Status : Answered
 Chosen Option : 3

Q.2 निम्नलिखित में से कौन-सी, भारतीय संविधान की संघीय विशेषता नहीं है?

- Ans ☒ 1. लिखित संविधान
- ☒ 2. केंद्र और राज्यों के बीच शक्तियों का बँटवारा
- ☒ 3. एकल नागरिकता
- ☒ 4. स्वतंत्र न्यायपालिका

Question ID : 264330117784
 Option 1 ID : 264330462951
 Option 2 ID : 264330462952
 Option 3 ID : 264330462954
 Option 4 ID : 264330462953
 Status : Answered
 Chosen Option : 3

Q.3 2011 की जनगणना के अनुसार, भारत के किस केंद्र शासित प्रदेश में सबसे अधिक लिंगानुपात (प्रति 1000 पुरुषों पर महिलाएँ) है?

- Ans ☒ 1. दादरा और नगर हवेली
- ☒ 2. पुदुचेरी
- ☒ 3. दमन और दीव
- ☒ 4. दिल्ली

Question ID : 264330132735
 Option 1 ID : 264330520038
 Option 2 ID : 264330520036
 Option 3 ID : 264330520035
 Option 4 ID : 264330520037
 Status : Answered
 Chosen Option : 1

Test Prime

**ALL EXAMS,
ONE SUBSCRIPTION**



70,000+
Mock Tests



**Personalised
Report Card**



**Unlimited
Re-Attempt**



600+
Exam Covered



**Previous Year
Papers**



500%
Refund



ATTEMPT FREE MOCK NOW

Q.4 According to the UNDP Human Development Report 2021-22, what was the Human Development Index rank of India?

- Ans ☒ 1. 132
☒ 2. 114
☒ 3. 154
☒ 4. 133

Question ID : 264330119916
 Option 1 ID : 264330469941
 Option 2 ID : 264330469942
 Option 3 ID : 264330469940
 Option 4 ID : 264330469939
 Status : Answered
 Chosen Option : 2

Q.5 भारतीय संविधान में कानून के शासन का विचार किस देश से लिया गया है?

- Ans ☒ 1. जर्मनी
☒ 2. संयुक्त राज्य अमेरिका
☒ 3. यूनाइटेड किंगडम
☒ 4. फ्रांस

Question ID : 264330183145
 Option 1 ID : 264330718313
 Option 2 ID : 264330718315
 Option 3 ID : 264330718312
 Option 4 ID : 264330718314
 Status : Answered
 Chosen Option : 3

Q.6 Who authored 'Untouchable' depicting the caste system?

- Ans ☒ 1. Mulk Raj Anand
☒ 2. Jai Ratan
☒ 3. RK Narayan
☒ 4. Vikram Seth

Question ID : 26433064224
 Option 1 ID : 264330251488
 Option 2 ID : 264330251489
 Option 3 ID : 264330251491
 Option 4 ID : 264330251490
 Status : Not Answered
 Chosen Option : --

Q.7 मूल रूप से, भारत के संविधान में _____ अनुसूचियां थीं।

- Ans ☒ 1. 8
☒ 2. 6
☒ 3. 7
☒ 4. 10

Question ID : 264330130428
 Option 1 ID : 264330510823
 Option 2 ID : 264330510824
 Option 3 ID : 264330510826
 Option 4 ID : 264330510825
 Status : Answered
 Chosen Option : 4

Q.8 शासन कला, राजनीतिविज्ञान, आर्थिक नीति और सैन्य रणनीति पर एक प्राचीन भारतीय संस्कृत ग्रंथ 'अर्थशास्त्र' _____ ने लिखा था।

- Ans ☒ 1. विष्णुगुप्त
☒ 2. अशोक
☒ 3. चंद्रगुप्त मौर्य
☒ 4. बिन्दुसार

Question ID : 264330118952
Option 1 ID : 264330466465
Option 2 ID : 264330466464
Option 3 ID : 264330466463
Option 4 ID : 264330466466
Status : Answered
Chosen Option : 3

Q.9 SAFF चैंपियनशिप 2023 के आयोजन की मेजबानी किस शहर ने की थी?

- Ans ☒ 1. बेंगलुरु
☒ 2. मैंगलोर
☒ 3. मैसूर
☒ 4. गुलबर्ग

Question ID : 264330176077
Option 1 ID : 264330690603
Option 2 ID : 264330690604
Option 3 ID : 264330690605
Option 4 ID : 264330690606
Status : Answered
Chosen Option : 4

Q.10 'Who moved my interest rate' is the autobiography of D Subbarao who was a _____.

- Ans ☒ 1. journalist
☒ 2. political leader
☒ 3. businessman
☒ 4. banker

Question ID : 26433071701
Option 1 ID : 264330281228
Option 2 ID : 264330281230
Option 3 ID : 264330281231
Option 4 ID : 264330281229
Status : Answered
Chosen Option : 4

Q.11 एफ़डीआई (FDI) का पूर्ण रूप है ____ ।

- Ans ☒ 1. फॉरेक्स डायरेक्ट इन्वेस्टमेंट (Forex Direct Investment)
☒ 2. फॉरेक्स डीरेगुलेटेड इन्वेस्टमेंट (Forex Deregulated Investment)
☒ 3. फॉरेन डायरेक्ट इन्वेस्टमेंट (Foreign Direct Investment)
☒ 4. फॉरेन डीरेगुलेटेड इन्वेस्टमेंट (Foreign Deregulated Investment)

Question ID : 26433065489
Option 1 ID : 264330256516
Option 2 ID : 264330256519
Option 3 ID : 264330256518
Option 4 ID : 264330256517
Status : Answered
Chosen Option : 3

Q.12 'Left-arm leg spin' in cricket is known as _____.

- Ans ☒ 1. Chinaman ball
☒ 2. off-spin
☒ 3. orthodox spin
☒ 4. leg spin

Question ID : 264330118485
 Option 1 ID : 264330465342
 Option 2 ID : 264330465343
 Option 3 ID : 264330465344
 Option 4 ID : 264330465341
 Status : Answered
 Chosen Option : 2

Q.13 बहमनी साम्राज्य की स्थापना किस वर्ष हुई थी?

- Ans ☒ 1. 1325 ईस्वी
☒ 2. 1351 ईस्वी
☒ 3. 1336 ईस्वी
☒ 4. 1347 ईस्वी

Question ID : 264330114036
 Option 1 ID : 264330448230
 Option 2 ID : 264330448231
 Option 3 ID : 264330448229
 Option 4 ID : 264330448232
 Status : Answered
 Chosen Option : 2

Q.14 निम्नलिखित में से कौन-सा, सार्वजनिक क्षेत्र के उद्यमों का स्वामित्व, प्रबंधन और नियंत्रण निजी क्षेत्र के उद्यमियों को किए जाने वाले हस्तांतरण को संदर्भित करता है?

- Ans ☒ 1. उदारीकरण
☒ 2. वैश्वीकरण
☒ 3. लाइसेंसिंग
☒ 4. निजीकरण

Question ID : 26433082175
 Option 1 ID : 264330322533
 Option 2 ID : 264330322534
 Option 3 ID : 264330322536
 Option 4 ID : 264330322535
 Status : Answered
 Chosen Option : 3

Q.15 भारती विट्ठल, मुख्यतः एक पुरस्कार विजेता _____ नृत्यांगना हैं।

- Ans ☒ 1. मोहिनीअट्टम
☒ 2. कुचिपूड़ी
☒ 3. कथकली
☒ 4. भरतनाट्यम

Question ID : 264330181385
 Option 1 ID : 264330711466
 Option 2 ID : 264330711463
 Option 3 ID : 264330711465
 Option 4 ID : 264330711464
 Status : Answered
 Chosen Option : 1

Q.16 भारत सरकार का प्रमुख कार्यक्रम, 'सर्व शिक्षा अभियान' राज्य के नीति निर्देशक सिद्धांतों के निम्नलिखित में से किस प्रावधान को पूरा करता है?

- Ans
- ☒ 1. अनुच्छेद 44
 - ☒ 2. अनुच्छेद 45
 - ☒ 3. अनुच्छेद 42
 - ☒ 4. अनुच्छेद 43

Question ID : 264330110585
Option 1 ID : 264330434619
Option 2 ID : 264330434620
Option 3 ID : 264330434617
Option 4 ID : 264330434618
Status : Answered
Chosen Option : 3

Q.17 निम्नलिखित में से किस मंत्रालय ने राष्ट्रीय कौशल विकास निगम (National Skill Development Corporation) की स्थापना की थी?

- Ans
- ☒ 1. वित्त मंत्रालय
 - ☒ 2. जनजातीय कार्य मंत्रालय
 - ☒ 3. शिक्षा मंत्रालय
 - ☒ 4. कौशल विकास और उद्यमशीलता मंत्रालय

Question ID : 264330110138
Option 1 ID : 264330432831
Option 2 ID : 264330432832
Option 3 ID : 264330432830
Option 4 ID : 264330432829
Status : Answered
Chosen Option : 4

Q.18 निम्नलिखित में से किसे विशेष रूप से दिल्ली सल्तनत के सैन्य संगठन की देखभाल के लिए स्थापित किया गया था?

- Ans
- ☒ 1. दीवान-ए-अर्ज
 - ☒ 2. दीवान-ए-क्रादा
 - ☒ 3. दीवान-ए-इंशा
 - ☒ 4. दीवान-ए-विजारत

Question ID : 264330119482
Option 1 ID : 264330468213
Option 2 ID : 264330468214
Option 3 ID : 264330468212
Option 4 ID : 264330468211
Status : Answered
Chosen Option : 2

Q.19 किसी प्रजाति का उसको प्रभावित करने वाले सभी जैविक और अजैविक कारकों के साथ उसके अंतर्संबंध को क्या कहा जाता है?

- Ans ☒ 1. पारिस्थितिक ताक (Ecological niche)
☒ 2. खाद्य जाल (Food web)
☒ 3. खाद्य श्रृंखला (Food chain)
☒ 4. प्राकृतिक वास (Habitat)

Question ID : 264330120954
 Option 1 ID : 264330474032
 Option 2 ID : 264330474033
 Option 3 ID : 264330474034
 Option 4 ID : 264330474031
 Status : Answered
 Chosen Option : 4

Q.20 'Mintonette' is related to which of the following sports?

- Ans ☒ 1. Cricket
☒ 2. Basketball
☒ 3. Handball
☒ 4. Volleyball

Question ID : 264330118479
 Option 1 ID : 264330465317
 Option 2 ID : 264330465319
 Option 3 ID : 264330465320
 Option 4 ID : 264330465318
 Status : Answered
 Chosen Option : 4

Q.21 गंगमेई अलुना काबुईनी एक प्रसिद्ध आदिवासी 'काबुई' नर्तकी है, जो निम्नलिखित में से किस राज्य से जुड़ी है?

- Ans ☒ 1. असम
☒ 2. गोवा
☒ 3. ओडिशा
☒ 4. मणिपुर

Question ID : 264330106196
 Option 1 ID : 264330417085
 Option 2 ID : 264330417088
 Option 3 ID : 264330417087
 Option 4 ID : 264330417086
 Status : Answered
 Chosen Option : 2

Q.22 कोशिकीय अंगकों और सतह स्थलाकृति प्रतिबिंबन के लिए कोशिका जैविकी शोध में किस तकनीक का उपयोग किया जाता है?

- Ans
- ☒ 1. अवस्था विपर्यासी सूक्ष्मदर्शिकी (Phase contrast microscopy)
 - ☒ 2. क्रमवीक्षण इलेक्ट्रॉन सूक्ष्मदर्शिकी (Scanning electron microscopy)
 - ☒ 3. अदीप्त क्षेत्र सूक्ष्मदर्शिकी (Dark-field microscopy)
 - ☒ 4. प्रतिदीप्ति सूक्ष्मदर्शिकी (Fluorescence microscopy)

Question ID : 264330130993
Option 1 ID : 264330513083
Option 2 ID : 264330513085
Option 3 ID : 264330513086
Option 4 ID : 264330513084
Status : Not Answered
Chosen Option : --

Q.23 यूनेस्को की विश्व धरोहर स्थल की सूची में शामिल महाबोधि मंदिर कहाँ स्थित है?

- Ans
- ☒ 1. देवरिया
 - ☒ 2. पटना
 - ☒ 3. कुशीनगर
 - ☒ 4. बोधगया

Question ID : 26433074098
Option 1 ID : 264330290513
Option 2 ID : 264330290514
Option 3 ID : 264330290512
Option 4 ID : 264330290515
Status : Answered
Chosen Option : 3

Q.24 भारत की जनगणना 2011 के अनुसार, सबसे कम साक्षरता दर, केंद्र शासित प्रदेश _____ में दर्ज की गई थी।

- Ans
- ☒ 1. अंडमान व नोकोबार द्वीप समूह
 - ☒ 2. चंडीगढ़
 - ☒ 3. पांडिचेरी
 - ☒ 4. दादरा और नगर हवेली

Question ID : 264330182973
Option 1 ID : 264330717625
Option 2 ID : 264330717627
Option 3 ID : 264330717626
Option 4 ID : 264330717624
Status : Answered
Chosen Option : 3

Q.25 निम्नलिखित में से कौन ऋग्वेद में वर्णित 3 सबसे महत्वपूर्ण देवताओं में से एक नहीं है?

- Ans
- ☒ 1. सोम
 - ☒ 2. अग्नि
 - ☒ 3. इंद्र
 - ☒ 4. प्रजापति

Question ID : 264330183110
Option 1 ID : 264330718175
Option 2 ID : 264330718172
Option 3 ID : 264330718173
Option 4 ID : 264330718174
Status : Answered
Chosen Option : 4

Q.26 LPG को छोटे सिलिंडरों में उच्च दाब के अंतर्गत संग्रहित किया जाता है क्योंकि _____।

- Ans ☒ 1. गैस, द्रव रूप में बदल जाती है, जिससे भंडारण के लिए कम जगह की आवश्यकता होती है
- ☒ 2. यह सामान्य तापमान पर आसानी से जलती है
- ☒ 3. सिलिंडर में गैस का भंडारण नहीं हो सकता है
- ☒ 4. द्रव वहन करने में हल्का होता है

Question ID : 264330177024

Option 1 ID : 264330694291

Option 2 ID : 264330694292

Option 3 ID : 264330694294

Option 4 ID : 264330694293

Status : Answered

Chosen Option : 1

Q.27 वर्ष 1904 में, भारत में पहला सीमेंट प्लांट कहाँ स्थापित किया गया था?

- Ans ☒ 1. मुंबई
- ☒ 2. कोलकाता
- ☒ 3. दिल्ली
- ☒ 4. चेन्नई

Question ID : 264330119779

Option 1 ID : 264330469392

Option 2 ID : 264330469393

Option 3 ID : 264330469394

Option 4 ID : 264330469391

Status : Answered

Chosen Option : 1

Q.28 मधु मंसूरी हसमुख _____ राज्य के एक गायक, गीतकार और कार्यकर्ता हैं।

- Ans ☒ 1. झारखंड
- ☒ 2. आंध्र प्रदेश
- ☒ 3. छत्तीसगढ़
- ☒ 4. मध्य प्रदेश

Question ID : 264330110248

Option 1 ID : 264330433270

Option 2 ID : 264330433271

Option 3 ID : 264330433269

Option 4 ID : 264330433272

Status : Not Answered

Chosen Option : --

Q.29 2016 के किस संविधान संशोधन अधिनियम में जीएसटी परिषद की स्थापना का प्रावधान किया गया है?

- Ans ☒ 1. 99वाँ
- ☒ 2. 103वाँ
- ☒ 3. 101वाँ
- ☒ 4. 100वाँ

Question ID : 264330120171

Option 1 ID : 264330470939

Option 2 ID : 264330470942

Option 3 ID : 264330470941

Option 4 ID : 264330470940

Status : Answered

Chosen Option : 4

Q.30 वस्तु विनिमय प्रणाली (बार्टर सिस्टम) से आप क्या समझते हैं?

- Ans
- ☒ 1. मुद्रा के बदले वस्तु की खरीद
 - ☒ 2. वस्तु के बदले वस्तु की खरीद और बिक्री
 - ☒ 3. कोई खरीद या बिक्री नहीं
 - ☒ 4. मुद्रा के बदले वस्तु की बिक्री

Question ID : 264330110159
Option 1 ID : 264330432913
Option 2 ID : 264330432916
Option 3 ID : 264330432915
Option 4 ID : 264330432914
Status : Answered
Chosen Option : 2

Q.31 उत्तरी मैदानों का पश्चिमी भाग निम्नलिखित में से किस नदी प्रणाली द्वारा निर्मित है?

- Ans
- ☒ 1. गंगा और उसकी सहायक नदियों
 - ☒ 2. सिंधु और उसकी सहायक नदियों
 - ☒ 3. ब्रह्मपुत्र और उसकी सहायक नदियों
 - ☒ 4. महानदी और उसकी सहायक नदियों

Question ID : 264330177099
Option 1 ID : 264330694591
Option 2 ID : 264330694592
Option 3 ID : 264330694593
Option 4 ID : 264330694594
Status : Answered
Chosen Option : 4

Q.32 भारत के प्रधानमंत्री ने दिसंबर 2022 में _____ मेट्रो चरण-1 को राष्ट्र को समर्पित किया।

- Ans
- ☒ 1. जयपुर
 - ☒ 2. शिमला
 - ☒ 3. नागपुर
 - ☒ 4. अमृतसर

Question ID : 264330120365
Option 1 ID : 264330471714
Option 2 ID : 264330471711
Option 3 ID : 264330471713
Option 4 ID : 264330471712
Status : Answered
Chosen Option : 3

Q.33 1793 के स्थायी बंदोबस्त अधिनियम का उद्देश्य ईस्ट इंडिया कंपनी और _____ के बीच निश्चित राजस्व संग्रह के लिए एक समझौता करना था।

- Ans
- ☒ 1. मजदूरों
 - ☒ 2. जमींदारों
 - ☒ 3. आम आदमी
 - ☒ 4. किसानों

Question ID : 264330118994
Option 1 ID : 264330466634
Option 2 ID : 264330466633
Option 3 ID : 264330466632
Option 4 ID : 264330466631
Status : Answered
Chosen Option : 2

Q.34 1929 में निम्नलिखित में से किस अधिनियम के क्रियान्वयन का विरोध करने के लिए भगत सिंह और उनके एक सहयोगी ने दिल्ली में केंद्रीय विधानसभा में बम फेंका था?

- Ans
- ☒ 1. र्नाक्युलर प्रेस अधिनियम
 - ☒ 2. रोलेट अधिनियम
 - ☒ 3. भारत रक्षा अधिनियम
 - ☒ 4. बाल विवाह निरोधक अधिनियम

Question ID : 264330118993
Option 1 ID : 264330466630
Option 2 ID : 264330466627
Option 3 ID : 264330466628
Option 4 ID : 264330466629
Status : Answered
Chosen Option : 1

Q.35 कॉलमों का सुमेलन कीजिए।

खाद्य सामग्री	पता लगाने के लिए प्रयुक्त रसायन/अभिकर्मक/परीक्षण
i. स्टार्च	a. एक्रोलिन परीक्षण
ii. वसा	b. बाइयूरेट परीक्षण
iii. प्रोटीन	c. आयोडीन
iv. हैलोजेनोएल्केन लवण	d. सिल्वर नाइट्रेट

- Ans
- ☒ 1. i-c, ii-a, iii-b, iv-d
 - ☒ 2. i-c, ii-d, iii-a, iv-b
 - ☒ 3. i-d, ii-c, iii-b, iv-a
 - ☒ 4. i-c, ii-d, iii-b, iv-a

Question ID : 264330138007
Option 1 ID : 264330540635
Option 2 ID : 264330540636
Option 3 ID : 264330540638
Option 4 ID : 264330540637
Status : Not Answered
Chosen Option : --

Q.36 एक पारंपरिक खेल यूबी लकड़ी किस राज्य में खेला जाता है?

- Ans
- ☒ 1. मणिपुर
 - ☒ 2. अरुणाचल प्रदेश
 - ☒ 3. हिमाचल प्रदेश
 - ☒ 4. झारखंड

Question ID : 264330119279
Option 1 ID : 264330467406
Option 2 ID : 264330467405
Option 3 ID : 264330467404
Option 4 ID : 264330467403
Status : Answered
Chosen Option : 1

Q.37 राज्य विधानमंडल की सदस्यता के बिना किसी व्यक्ति को कितने माह तक मुख्यमंत्री नियुक्त किया जा सकता है?

- Ans
- ✓ 1. 6 माह
 - ✗ 2. 2 वर्ष
 - ✗ 3. 15 माह
 - ✗ 4. 1 वर्ष

Question ID : 264330173537
Option 1 ID : 264330680627
Option 2 ID : 264330680630
Option 3 ID : 264330680628
Option 4 ID : 264330680629
Status : Answered
Chosen Option : 1

Q.38 1828 में ब्रिटिश भारत के निम्नलिखित समाज सुधारकों में से किसके द्वारा ब्रह्म समाज की स्थापना की गई थी?

- Ans
- ✗ 1. ज्योतिबा फुले
 - ✗ 2. रवीन्द्रनाथ टैगोर
 - ✗ 3. बाबा आम्टे
 - ✓ 4. राजा राम मोहन राय

Question ID : 264330182741
Option 1 ID : 264330716737
Option 2 ID : 264330716736
Option 3 ID : 264330716738
Option 4 ID : 264330716735
Status : Answered
Chosen Option : 4

Q.39 असम में सुकरेश्वर मंदिर एक _____ है।

- Ans
- ✓ 1. शिव मंदिर
 - ✗ 2. विष्णु मंदिर
 - ✗ 3. राम मंदिर
 - ✗ 4. कृष्ण मंदिर

Question ID : 26433072938
Option 1 ID : 264330285946
Option 2 ID : 264330285945
Option 3 ID : 264330285944
Option 4 ID : 264330285947
Status : Answered
Chosen Option : 2

Q.40 _____ निर्मित करने की शक्ति केवल विधान सभा के पास होती है।

- Ans
- ✗ 1. ड्राफ्ट
 - ✓ 2. धन विधेयक
 - ✗ 3. परमादेश
 - ✗ 4. अधिनियम

Question ID : 26433086863
Option 1 ID : 264330341094
Option 2 ID : 264330341096
Option 3 ID : 264330341095
Option 4 ID : 264330341093
Status : Answered
Chosen Option : 2

Q.41 Which is the largest component of GDP?

- Ans ☒ 1. Investment
☒ 2. Consumption
☒ 3. Government purchase
☒ 4. Net exports

Question ID : 264330116508
 Option 1 ID : 264330458120
 Option 2 ID : 264330458117
 Option 3 ID : 264330458118
 Option 4 ID : 264330458119
 Status : Answered
 Chosen Option : 1

Q.42 एल बिनो देवी को किस प्रकार के नृत्य के लिए संगीत नाटक अकादमी पुरस्कार मिला?

- Ans ☒ 1. कथकली
☒ 2. सलिया
☒ 3. घूमर
☒ 4. मणिपुरी

Question ID : 26433074880
 Option 1 ID : 264330293610
 Option 2 ID : 264330293608
 Option 3 ID : 264330293611
 Option 4 ID : 264330293609
 Status : Answered
 Chosen Option : 2

Q.43 हरित क्रांति मुख्य रूप से किन फसलों के लिए थी?

- Ans ☒ 1. बाजरा और चावल
☒ 2. गेहूँ और चावल
☒ 3. जौ और बाजरा
☒ 4. गेहूँ और बाजरा

Question ID : 264330117754
 Option 1 ID : 264330462833
 Option 2 ID : 264330462831
 Option 3 ID : 264330462834
 Option 4 ID : 264330462832
 Status : Answered
 Chosen Option : 2

Q.44 वर्षण पैटर्न के संदर्भ में, गर्म समशीतोष्ण जलवायु में Cf का क्या अर्थ है?

- Ans ☒ 1. मौसमी वर्षण
☒ 2. बूँदा बांदी वर्षण
☒ 3. हिम वर्षण
☒ 4. साल भर वर्षण

Question ID : 264330131012
 Option 1 ID : 264330513159
 Option 2 ID : 264330513161
 Option 3 ID : 264330513162
 Option 4 ID : 264330513160
 Status : Not Answered
 Chosen Option : --

Q.45 पांचवीं पंचवर्षीय योजना का प्रारूप किसने तैयार और लॉन्च किया था?

- Ans
- ☐ 1. मनमोहन सिंह
 - ☐ 2. जयप्रकाश नारायण
 - ☐ 3. बिबेक देबरॉय
 - ☒ 4. डी.पी. धर

Question ID : 264330109992
Option 1 ID : 264330432248
Option 2 ID : 264330432247
Option 3 ID : 264330432246
Option 4 ID : 264330432245
Status : Answered
Chosen Option : 2

Q.46 राष्ट्रीय युवा दिवस निम्न में से किस व्यक्तित्व की जन्मतिथि पर मनाया जाता है?

- Ans
- ☐ 1. ए. पी. जे. अब्दुल कलाम
 - ☐ 2. नेताजी सुभाष चंद्र बोस
 - ☒ 3. स्वामी विवेकानंद
 - ☐ 4. विक्रम साराभाई

Question ID : 264330109309
Option 1 ID : 264330429515
Option 2 ID : 264330429514
Option 3 ID : 264330429516
Option 4 ID : 264330429513
Status : Answered
Chosen Option : 2

Q.47 शकूर खान निम्नलिखित में से किस वाद्य-यंत्र से जुड़े हैं?

- Ans
- ☐ 1. रुद्र वीणा
 - ☐ 2. शहनाई
 - ☐ 3. वायोलिन
 - ☒ 4. सारंगी

Question ID : 264330111935
Option 1 ID : 264330439825
Option 2 ID : 264330439826
Option 3 ID : 264330439827
Option 4 ID : 264330439828
Status : Answered
Chosen Option : 3

Q.48 निम्नलिखित में से किसने 1875 में अलीगढ़ मुस्लिम विश्वविद्यालय की स्थापना की थी?

- Ans
- ☐ 1. आगा खान
 - ☐ 2. नवाब सलीमुल्लाह
 - ☒ 3. सैय्यद अहमद खॉं
 - ☐ 4. मोहम्मद इकबाल

Question ID : 264330119009
Option 1 ID : 264330466691
Option 2 ID : 264330466693
Option 3 ID : 264330466694
Option 4 ID : 264330466692
Status : Answered
Chosen Option : 1

Q.49 भगवान महावीर द्वारा निर्वाण प्राप्त करने के उपलक्ष्य में बिहार के पावापुरी में जैन समुदाय द्वारा निम्नलिखित में से कौन-सा त्योहार मनाया जाता है?

- Ans
- ☒ 1. रोट तीज
 - ☒ 2. देव दीपावली
 - ☒ 3. ज्ञान पंचमी
 - ☒ 4. पर्यूषण

Question ID : 264330132416
 Option 1 ID : 264330518762
 Option 2 ID : 264330518760
 Option 3 ID : 264330518761
 Option 4 ID : 264330518759
 Status : Answered
 Chosen Option : 3

Q.50 विलासिनी नाट्यम का प्रसिद्ध कलाकार निम्नलिखित में से कौन है?

- Ans
- ☒ 1. अदिति मंगलदास
 - ☒ 2. लीला सैमसन
 - ☒ 3. गिरिजा देवी
 - ☒ 4. स्वप्नसुंदरी

Question ID : 26433086932
 Option 1 ID : 264330341372
 Option 2 ID : 264330341369
 Option 3 ID : 264330341370
 Option 4 ID : 264330341371
 Status : Not Answered
 Chosen Option : --

Section : Reasoning

Q.1 निम्नलिखित श्रृंखला को जारी रखने के लिए प्रश्न चिह्न (?) के स्थान पर कौन सी आकृति आनी चाहिए?

Q	8	W	W	C	Q	♡	Q	8	8	W	♡	C	♡	Q	
	C			7			W			7			8		?
7		♡	♡		8	7		C	C		Q	7		W	

Ans

✓ 1.

Q	8	C
	7	
W		♡

✗ 2.

Q	C	♡
	7	
W		8

✗ 3.

C	8	Q
	7	
W		♡

✗ 4.

Q	♡	C
	7	
W		8

Question ID : 264330103901

Option 1 ID : 264330407905

Option 2 ID : 264330407906

Option 3 ID : 264330407908

Option 4 ID : 264330407907

Status : Answered

Chosen Option : 2

Q.2 दर्पण को नीचे दिए गए चित्र के अनुसार PQ पर रखे जाने पर दी गई आकृति का दर्पण में निर्मित सही प्रतिबिंब चयनित कीजिए।



Ans

- ✗ 1. X U E 2 f 3 N
- ✗ 2. N 3 f 2 E U X
- ✓ 3. N 3 f 2 E U X
- ✗ 4. N 3 f 2 E U X

Question ID : 26433080781

Option 1 ID : 264330317057

Option 2 ID : 264330317059

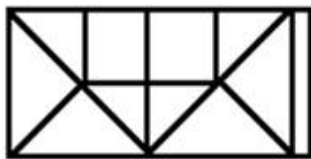
Option 3 ID : 264330317060

Option 4 ID : 264330317058

Status : Answered

Chosen Option : 3

Q.3 दी गई आकृति में कितने त्रिभुज हैं?



Ans

- ✗ 1. 12
- ✓ 2. 14
- ✗ 3. 10
- ✗ 4. 8

Question ID : 26433079025

Option 1 ID : 264330310106

Option 2 ID : 264330310107

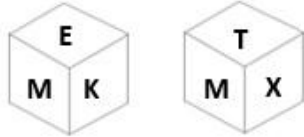
Option 3 ID : 264330310105

Option 4 ID : 264330310104

Status : Answered

Chosen Option : 2

Q.4 एक पासे के अलग-अलग फलकों पर छः अक्षर M, E, K, T, X और B लिखे गए हैं। इस पासे की दो स्थितियों को चित्र में दिखाया गया है। E के विपरीत फलक पर अक्षर ज्ञात कीजिए।



- Ans
- ☒ 1. X
 - ☒ 2. T
 - ☒ 3. K
 - ☒ 4. M

Question ID : 264330129793
Option 1 ID : 264330508406
Option 2 ID : 264330508405
Option 3 ID : 264330508404
Option 4 ID : 264330508403
Status : Answered
Chosen Option : 2

Q.5 एक निश्चित कूट भाषा में, 'VALUE' को 'GWNCX' के रूप में लिखा जाता है और 'PLANT' को 'VPCNR' के रूप में लिखा जाता है। उसी भाषा में 'BRAIN' को कैसे लिखा जाएगा?

- Ans
- ☒ 1. PCKTD
 - ☒ 2. CTDPK
 - ☒ 3. PKCTD
 - ☒ 4. PKCDT

Question ID : 26433087170
Option 1 ID : 264330342317
Option 2 ID : 264330342320
Option 3 ID : 264330342319
Option 4 ID : 264330342318
Status : Answered
Chosen Option : 3

Q.6 उस विकल्प का चयन कीजिए, जो तीसरे शब्द से उसी प्रकार संबंधित है, जिस प्रकार दूसरा शब्द पहले शब्द से संबंधित है।
(शब्दों को अंग्रेजी/हिंदी के अर्थपूर्ण शब्दों के रूप में माना जाना चाहिए और ये शब्द, अक्षरों की संख्या/ व्यंजनों/स्वरों की संख्या के आधार पर एक-दूसरे से संबंधित नहीं होने चाहिए।)
पुस्तकालय : कैटेलॉग :: भोजनालय : ?

- Ans
- ☒ 1. बुकलेट
 - ☒ 2. मेनू
 - ☒ 3. इंडेक्स
 - ☒ 4. रेसिपी बुक

Question ID : 26433070282
Option 1 ID : 264330275606
Option 2 ID : 264330275605
Option 3 ID : 264330275604
Option 4 ID : 264330275607
Status : Answered
Chosen Option : 1

Q.7 उस समुच्चय का चयन करें जिसमें दी गई संख्याएं आपस में उसी प्रकार संबंधित हैं, जिस प्रकार प्रश्न में दिए गए समुच्चय की संख्याएं आपस में संबंधित हैं।
(नोट: संख्याओं को उसके घटक अंकों में विभाजित किए बिना, पूर्ण संख्याओं पर ही गणितीय संक्रियाएँ की जानी चाहिए। जैसे 13 - मान लीजिए 13 पर गणितीय संक्रियाएँ जैसे कि 13 में जोड़ना/घटाना/गुणा करना आदि किया जा सकता है। 13 को 1 और 3 में तोड़कर और फिर 1 और 3 पर गणितीय संक्रियाएँ करने की अनुमति नहीं है।)
(6, 9, 2)
(12, 36, 2)

- Ans
- ☐ 1. (12, 6, 4)
 - ☐ 2. (14, 7, 7)
 - ☒ 3. (18, 9, 6)
 - ☐ 4. (10, 8, 5)

Question ID : 26433087042
Option 1 ID : 264330341810
Option 2 ID : 264330341812
Option 3 ID : 264330341811
Option 4 ID : 264330341809
Status : Answered
Chosen Option : 3

Q.8 जब दर्पण को MN पर, जैसा कि दिखाया गया है, रखा जाता है तब दिए गए संयोजन के सही दर्पण प्रतिबिंब का चयन कीजिए।

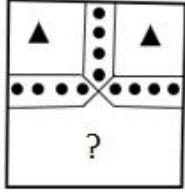
R d 3 G c 5 f

M
|
N

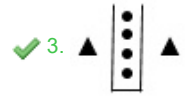
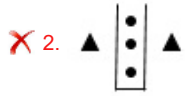
- Ans
- ☐ 1. f 5 c 3 G d R
 - ☐ 2. f 2 c 3 b R
 - ☐ 3. R b c 3 f 5 d
 - ☒ 4. f 2 c 3 b R

Question ID : 264330121697
Option 1 ID : 264330476962
Option 2 ID : 264330476959
Option 3 ID : 264330476960
Option 4 ID : 264330476961
Status : Answered
Chosen Option : 4

Q.9 दिए गए विकल्पों में से उस आकृति का चयन कीजिए जो पैटर्न को पूर्ण करने के लिए नीचे दी गई आकृति में प्रश्न चिह्न (?) के स्थान पर आएगी।



Ans



Question ID : 264330117969

Option 1 ID : 264330463691

Option 2 ID : 264330463692

Option 3 ID : 264330463694

Option 4 ID : 264330463693

Status : Answered

Chosen Option : 3

Q.10 यदि श्रृंखला को जारी रखना हो, तो प्रश्न चिह्न (?) के स्थान पर कौन-सी आकृति आनी चाहिए?

6	I	I	V	C	N	N	6	
C	□	V	2	6	□	□	2	6
2		C		I		I	C	2
							□	
								?

Ans

✓ 1.

□	S
2	I
	C
	N

✗ 2.

6	S
C	2
	I
	N

✗ 3.

6	□
2	I
	C
	N

✗ 4.

□	S
C	2
	I
	N

Question ID : 264330130814
Option 1 ID : 264330512370
Option 2 ID : 264330512368
Option 3 ID : 264330512367
Option 4 ID : 264330512369

Status : Answered

Chosen Option : 3

Q.11 निम्नलिखित में से कौन सा पद (अक्षर-समूह) दी गई श्रृंखला में प्रश्न चिह्न (?) के स्थान पर आएगा?
COL, FMO, IKR, ?, OGX

- Ans
- ✗ 1. LIV
- ✓ 2. LIU
- ✗ 3. KJV
- ✗ 4. KIV

Question ID : 264330102179
Option 1 ID : 264330401184
Option 2 ID : 264330401183
Option 3 ID : 264330401181
Option 4 ID : 264330401182

Status : Answered

Chosen Option : 2

Q.12 S, T, U, V और W पांच बहनें एक सीधी पंक्ति में उत्तर की ओर मुख करके बैठी हैं। V, S के दाएं दूसरे स्थान पर बैठी है। W, T के बाएं दूसरे स्थान पर बैठी है। V पंक्ति के दाएं सिरे पर बैठी है। पंक्ति के ठीक बीच में कौन बैठी है?

Ans ☒ 1. W

☒ 2. S

☒ 3. U

☒ 4. T

Question ID : 26433090117

Option 1 ID : 264330353947

Option 2 ID : 264330353948

Option 3 ID : 264330353946

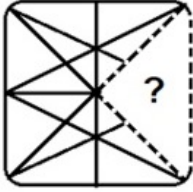
Option 4 ID : 264330353945

Status : Answered

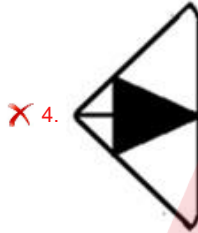
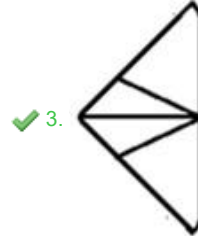
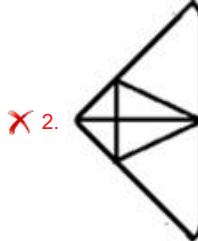
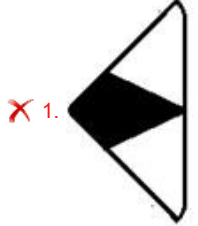
Chosen Option : 2



Q.13 उस विकल्प का चयन कीजिए जो प्रतिरूप को पूरा करने के लिए नीचे दी गई आकृति में प्रश्न चिह्न (?) के स्थान पर आ सकता है।



Ans



Question ID : 264330103152

Option 1 ID : 264330404913

Option 2 ID : 264330404915

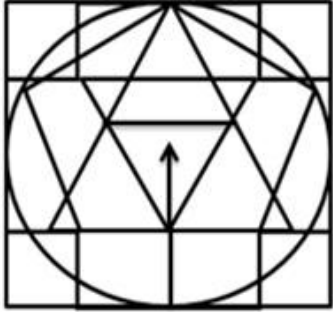
Option 3 ID : 264330404914

Option 4 ID : 264330404916

Status : Answered

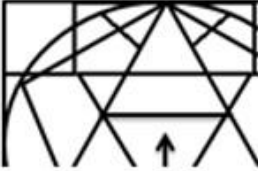
Chosen Option : 3

Q.14 विकल्पों में से उस आकृति का चयन करें, जो दी गई आकृति में सन्निहित है (घुमाने की अनुमति नहीं है)।

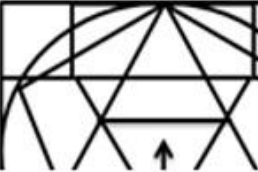


Ans

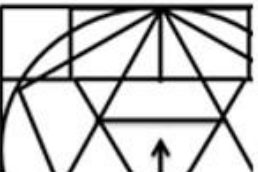
✗ 1.



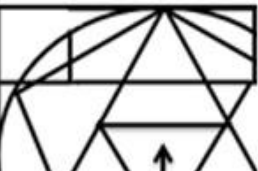
✓ 2.



✗ 3.



✗ 4.



Question ID : 264330114404

Option 1 ID : 264330449703

Option 2 ID : 264330449702

Option 3 ID : 264330449701

Option 4 ID : 264330449704

Status : Answered

Chosen Option : 1

Q.15 निम्नलिखित में से कौन-सी विकल्प आकृति नीचे दी गई आकृति के स्वरूप (पैटर्न) को पूरा करेगी?



Ans

✗ 1.



✗ 2.



✗ 3.



✓ 4.



Question ID : 26433080596

Option 1 ID : 264330316320

Option 2 ID : 264330316317

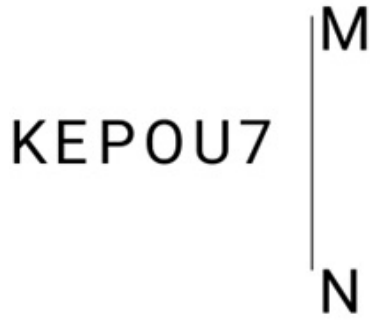
Option 3 ID : 264330316318

Option 4 ID : 264330316319

Status : Answered

Chosen Option : 4

Q.16 जब दर्पण को नीचे दर्शाए गए अनुसार MN रेखा पर रखा जाता है, तो दी गई आकृति के सही दर्पण प्रतिबिंब का चयन करें।



Ans

- ✓ 1.
- ✗ 2.
- ✗ 3.
- ✗ 4.

Question ID : 264330126682

Option 1 ID : 264330496401


Option 2 ID : 264330496403

Option 3 ID : 264330496402

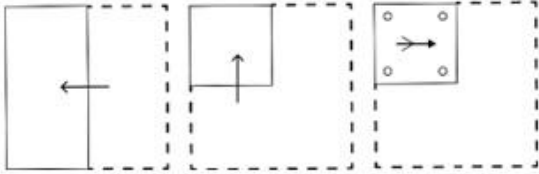
Option 4 ID : 264330496400

Status : Answered

Chosen Option : 1




Q.17 एक कागज को नीचे दिखाए अनुसार मोड़ा और काटा जाता है। खोलने पर यह कैसा दिखाई देगा?

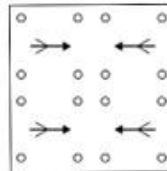


Ans


✗ 1.




✓ 2.



✗ 3.



✗ 4.



Question ID : 264330114704

Option 1 ID : 264330450902

Option 2 ID : 264330450904

Option 3 ID : 264330450901

Option 4 ID : 264330450903

Status : Answered

Chosen Option : 2

Q.18 निम्नलिखित समीकरण को सही बनाने के लिए किन दो चिह्नों को आपस में बदला जाना चाहिए?

$$17 - 2 + 39 \div 3 \times 7 = 40$$

Ans

✗ 1. + और -

✗ 2. + और ×

✗ 3. - और +

✓ 4. - और ×

Question ID : 264330101090

Option 1 ID : 264330396905

Option 2 ID : 264330396908

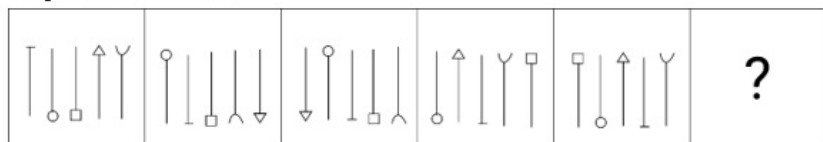
Option 3 ID : 264330396906

Option 4 ID : 264330396907

Status : Answered

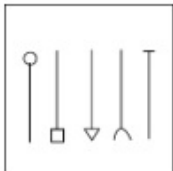
Chosen Option : 4

Q.19 निम्नलिखित श्रृंखला को जारी रखने के लिए प्रश्न चिह्न (?) के स्थान पर कौन सी आकृति आनी चाहिए?

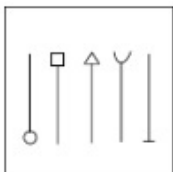


Ans

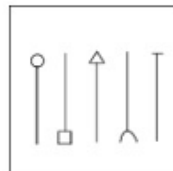
✗ 1.



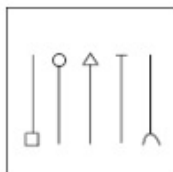
✗ 2.



✓ 3.



✗ 4.



Question ID : 264330103862

Option 1 ID : 264330407751

Option 2 ID : 264330407750

Option 3 ID : 264330407749

Option 4 ID : 264330407752

Status : Answered

Chosen Option : 1

Q.20 दिए गए कथनों और निष्कर्षों को ध्यानपूर्वक पढ़िए। यह मानते हुए कि कथनों में दी गई जानकारी सत्य है, भले ही वह सामान्य रूप से ज्ञात तथ्यों से भिन्न प्रतीत होती हो, तय कीजिए कि दिए गए निष्कर्षों में से कौन-सा/से निष्कर्ष कथनों का तार्किक रूप से अनुसरण करता है/करते हैं।

कथन:

- कुछ बोतलें, खिड़कियां हैं।
- कुछ खिड़कियां, हैंडल हैं।
- सभी दरवाजे, हैंडल हैं।

निष्कर्ष:

- I. कुछ बोतलें, हैंडल हैं।
- II. कुछ खिड़कियां, बोतलें हैं।
- III. कुछ दरवाजे, बोतलें हैं।

Ans ☒ 1. निष्कर्ष I, II और III अनुसरण करते हैं
☒ 2. निष्कर्ष I और II अनुसरण करते हैं
☒ 3. निष्कर्ष I और III अनुसरण करते हैं
☒ 4. केवल निष्कर्ष II अनुसरण करता है

Question ID : 26433078849
 Option 1 ID : 264330309409
 Option 2 ID : 264330309411
 Option 3 ID : 264330309408
 Option 4 ID : 264330309410
 Status : Answered
 Chosen Option : 4

Q.21 दिए गए समीकरण को सही करने के लिए निम्नलिखित में से किन दो गणितीय चिह्नों को आपस में बदला जाना चाहिए?

$$658 \times 14 \div 3 - 32 + 56 = 165$$

Ans ☒ 1. + और +
☒ 2. + और -
☒ 3. ÷ और ×
☒ 4. ÷ और =

Question ID : 26433085735
 Option 1 ID : 264330336644
 Option 2 ID : 264330336641
 Option 3 ID : 264330336642
 Option 4 ID : 264330336643
 Status : Answered
 Chosen Option : 3

Q.22 निम्नलिखित में से कौन-सा विकल्प दी गई श्रृंखला में प्रश्नवाचक चिन्ह (?) को प्रतिस्थापित करेगा?
 323, 646, 969, 1292, ?

Ans ☒ 1. 1486
☒ 2. 1615
☒ 3. 1276
☒ 4. 1200

Question ID : 264330109438
 Option 1 ID : 264330430030
 Option 2 ID : 264330430032
 Option 3 ID : 264330430029
 Option 4 ID : 264330430031
 Status : Answered
 Chosen Option : 2

Q.23 दर्पण को चित्र में दिखाए अनुसार रेखा MN पर रखे जाने पर, दिए गए संयोजन का सही दर्पण प्रतिबिंब चयन करें।

a p 5 h 3 7

M
|
N

Ans

✓ 1. 7 ɛ h 2 q 6

✗ 2. 7 ɛ h 2 d 6

✗ 3. 7 ɛ 4 5 q 6

✗ 4. 7 ɛ h 2 d a

Question ID : 26433068207

Option 1 ID : 264330267341

Option 2 ID : 264330267342

Option 3 ID : 264330267340

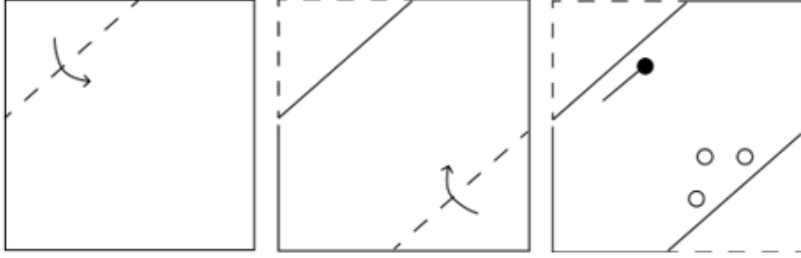
Option 4 ID : 264330267343

Status : Answered

Chosen Option : 1

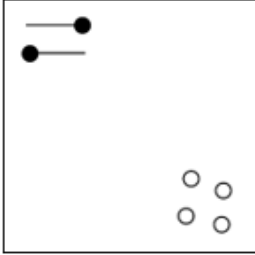


Q.24 कागज की एक वर्गाकार शीट को बिंदीदार रेखा के अनुदिश दिखाए गए निर्देशों के अनुसार क्रमिक रूप से मोड़ा जाता है और फिर अंत में इसे छिद्रित किया जाता है। कागज को खोलने पर यह कैसा दिखेगा?

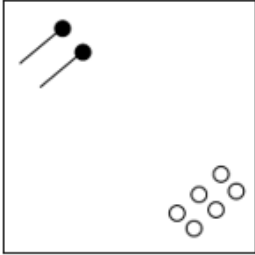


Ans

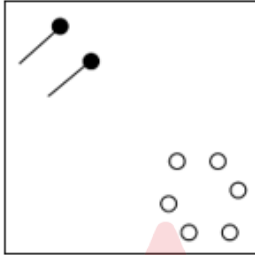
✗ 1.



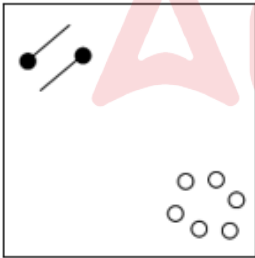
✗ 2.



✓ 3.



✗ 4.



Question ID : 264330172410

Option 1 ID : 264330676194

Option 2 ID : 264330676191

Option 3 ID : 264330676193

Option 4 ID : 264330676192

Status : Answered

Chosen Option : 3

Q.25 उस विकल्प का चयन करें जो तीसरे पद से उसी प्रकार संबंधित है जिस प्रकार दूसरा पद पहले पद से और छठा पद पांचवें पद से संबंधित है।
4 : 11 :: 8 : ? :: 12 : 35

- Ans
- ☒ 1. 39
 - ☒ 2. 31
 - ☒ 3. 23
 - ☒ 4. 15

Question ID : 264330101052
Option 1 ID : 264330396756
Option 2 ID : 264330396755
Option 3 ID : 264330396753
Option 4 ID : 264330396754
Status : Answered
Chosen Option : 3

Section : Numerical Ability

Q.1 एक निश्चित राशि साधारण ब्याज की एक निश्चित दर पर दो वर्ष बाद ₹4,620 हो जाती है और समान दर पर ढाई वर्ष बाद ₹4,725 हो जाती है। वार्षिक प्रतिशत दर ज्ञात कीजिए।

- Ans
- ☒ 1. 6%
 - ☒ 2. 4%
 - ☒ 3. 3%
 - ☒ 4. 5%

Question ID : 264330119523
Option 1 ID : 264330468378
Option 2 ID : 264330468376
Option 3 ID : 264330468375
Option 4 ID : 264330468377
Status : Answered
Chosen Option : 4

Q.2 15 छात्रों की किसी कक्षा का औसत भार 30 kg है। एक नया छात्र शामिल होता है और औसत भार 1 kg बढ़ जाता है। नए छात्र का वजन (kg में) ज्ञात कीजिए।

- Ans
- ☒ 1. 45
 - ☒ 2. 42
 - ☒ 3. 40
 - ☒ 4. 46

Question ID : 264330129918
Option 1 ID : 264330508905
Option 2 ID : 264330508903
Option 3 ID : 264330508904
Option 4 ID : 264330508906
Status : Answered
Chosen Option : 4

Q.3 12, 36 और 80 का लघुतम समापवर्त्य ज्ञात कीजिए।

- Ans ☒ 1. 720
☒ 2. 360
☒ 3. 480
☒ 4. 1440

Question ID : 264330103649
 Option 1 ID : 264330406903
 Option 2 ID : 264330406901
 Option 3 ID : 264330406904
 Option 4 ID : 264330406902
 Status : Answered
 Chosen Option : 4

Q.4 एक कस्बे की जनसंख्या 7,000 है। यदि पुरुष और महिला जनसंख्या में प्रतिशत वृद्धि क्रमशः 11% और 8% है, तो नई जनसंख्या 7,680 होगी। कस्बे में महिला नागरिकों की संख्या ज्ञात कीजिए।

- Ans ☒ 1. 2500
☒ 2. 4000
☒ 3. 4500
☒ 4. 3000

Question ID : 264330119508
 Option 1 ID : 264330468317
 Option 2 ID : 264330468315
 Option 3 ID : 264330468318
 Option 4 ID : 264330468316
 Status : Answered
 Chosen Option : 4

Q.5 A और B मिलकर किसी काम को 24 दिन में पूरा कर सकते हैं, जबकि B अकेला उसे 48 दिन में पूरा कर सकता है। A अकेले इस काम को कितने दिन में पूरा कर सकेगा?

- Ans ☒ 1. 48 दिन
☒ 2. 58 दिन
☒ 3. 42 दिन
☒ 4. 36 दिन

Question ID : 264330104536
 Option 1 ID : 264330410445
 Option 2 ID : 264330410448
 Option 3 ID : 264330410447
 Option 4 ID : 264330410446
 Status : Answered
 Chosen Option : 1

Q.6 यदि X का 60% = Y का 40% है, तो X : Y का मान ज्ञात कीजिए।

Ans ☒ 1. 3 : 5

☒ 2. 2 : 5

☒ 3. 3 : 2

☒ 4. 2 : 3

Question ID : 264330104241

Option 1 ID : 264330409268

Option 2 ID : 264330409267

Option 3 ID : 264330409265

Option 4 ID : 264330409266

Status : Answered

Chosen Option : 3

Q.7 श्याम एक नोटबुक को उसके क्रय मूल्य के बराबर लाभ प्रतिशत के साथ ₹24 में बेचता है। श्याम के लिए उस नोटबुक का क्रय मूल्य कितना था?

Ans ☒ 1. ₹20

☒ 2. ₹18

☒ 3. ₹24

☒ 4. ₹16

Question ID : 264330118067

Option 1 ID : 264330464084

Option 2 ID : 264330464085

Option 3 ID : 264330464083

Option 4 ID : 264330464086

Status : Answered

Chosen Option : 1

Q.8 ₹5,19,500 की राशि, $7\frac{4}{5}\%$ प्रति वर्ष चक्रवृद्धि ब्याज दर पर उधार ली गई और दो समान वार्षिक किस्तों में 2 वर्षों में वापस इसका भुगतान किया गया। किस्त ज्ञात कीजिए?

Ans ☒ 1. ₹3,00,521

☒ 2. ₹2,70,521

☒ 3. ₹2,90,521

☒ 4. ₹2,80,521

Question ID : 264330103624

Option 1 ID : 264330406801

Option 2 ID : 264330406804

Option 3 ID : 264330406802

Option 4 ID : 264330406803

Status : Answered

Chosen Option : 3

Q.9 What is the mean proportional of 16.81 and 12.96?

- Ans ☒ 1. 14.76
☒ 2. 16.48
☒ 3. 21.52
☒ 4. 18.36

Question ID : 264330168929

Option 1 ID : 264330662521

Option 2 ID : 264330662522

Option 3 ID : 264330662519

Option 4 ID : 264330662520

Status : Answered

Chosen Option : 2

Q.10 88 km दूर स्थित दो स्थानों से आकाश और विकास एक ही समय में एक दूसरे की ओर चलना शुरू करते हैं और 8 घंटे के बाद एक दूसरे से मिलते हैं। यदि आकाश अपनी चाल की $\frac{7}{6}$ चाल से यात्रा करता है और विकास अपनी चाल की तिगुनी चाल से यात्रा करता है, तो वे 4 घंटे बाद मिलते हैं। विकास की चाल क्या है?

- Ans ☒ 1. 7 km/h
☒ 2. 6 km/h
☒ 3. 4 km/h
☒ 4. 5 km/h

Question ID : 264330104418

Option 1 ID : 264330409976

Option 2 ID : 264330409975

Option 3 ID : 264330409973

Option 4 ID : 264330409974

Status : Answered

Chosen Option : 2

Q.11 A hollow spherical vessel has external and internal radii of 10.5 cm and 7.7 cm respectively. What is the mass (in kg, rounded off to the nearest tens) of the sphere if it is made of metal of density 10.3 g/cm³?
 (Take $\pi = \frac{22}{7}$)

- Ans ☒ 1. 32
☒ 2. 30
☒ 3. 28
☒ 4. 25

Question ID : 264330110271

Option 1 ID : 264330433362

Option 2 ID : 264330433361

Option 3 ID : 264330433363

Option 4 ID : 264330433364

Status : Not Answered

Chosen Option : --

Q.12 620 और 248 का एच.सी.एफ. (HCF) ज्ञात करें।

Ans ☒ 1. 124

☒ 2. 132

☒ 3. 126

☒ 4. 128

Question ID : 264330104468

Option 1 ID : 264330410176

Option 2 ID : 264330410175

Option 3 ID : 264330410173

Option 4 ID : 264330410174

Status : Answered

Chosen Option : 1

Q.13 The area of the base of a right circular cone is $25\pi \text{ cm}^2$ and its height is 12 cm. What is the curved surface area (in cm^2) of the cone?

Ans ☒ 1. 67π

☒ 2. 73π

☒ 3. 65π

☒ 4. 83π

Question ID : 264330169003

Option 1 ID : 264330662815

Option 2 ID : 264330662817

Option 3 ID : 264330662816

Option 4 ID : 264330662818

Status : Not Answered

Chosen Option : --

Q.14 Find the HCF of $3^2 \times 4^2 \times 9$, and $3^3 \times 4^4 \times 9^{10}$.

Ans ☒ 1. 1310

☒ 2. 1290

☒ 3. 1280

☒ 4. 1296

Question ID : 264330112412

Option 1 ID : 264330441736

Option 2 ID : 264330441734

Option 3 ID : 264330441733

Option 4 ID : 264330441735

Status : Answered

Chosen Option : 4

Q.15 एक विक्रेता किसी वस्तु की खरीद पर 10% और 20% की व्यापार छूट देता है, जिसका अंकित मूल्य ₹500 है। एक अन्य विक्रेता उसी वस्तु पर 30% की छूट देता है। उनके विक्रय मूल्य (₹ में) के बीच कितना अंतर है?

Ans ☒ 1. 10

☒ 2. 11

☒ 3. 12

☒ 4. 15

Question ID : 264330183840

Option 1 ID : 264330721036

Option 2 ID : 264330721037

Option 3 ID : 264330721038

Option 4 ID : 264330721039

Status : Answered

Chosen Option : 1

Section : Computer Proficiency

Q.1 Which of the following groups in the Home tab of MS word 365, consists of Bullets and Numbering?

Ans ☒ 1. Paragraph

☒ 2. Clipboard

☒ 3. Editing

☒ 4. Font

Question ID : 264330175967

Option 1 ID : 264330690165

Option 2 ID : 264330690163

Option 3 ID : 264330690166

Option 4 ID : 264330690164

Status : Answered

Chosen Option : 3

Q.2 Which of the following bars provides a shortcut to menu commands which are represented in the form of icons?

Ans ☒ 1. Space Bar

☒ 2. Tool Bar

☒ 3. Menu bar

☒ 4. Vertical Bar

Question ID : 264330178294

Option 1 ID : 264330699233

Option 2 ID : 264330699232

Option 3 ID : 264330699231

Option 4 ID : 264330699234

Status : Answered

Chosen Option : 3

Q.3 Which of the following is the function of an IP address?

- Ans**
- ☐ 1. Managing email communication
 - ☐ 2. Formatting web pages
 - ☐ 3. Creating secure connections
 - ☒ 4. Identifying devices on a network

Question ID : 264330180665
 Option 1 ID : 264330708628
 Option 2 ID : 264330708627
 Option 3 ID : 264330708630
 Option 4 ID : 264330708629
 Status : Answered
 Chosen Option : 4

Q.4 Bullets and numbering are commonly used in Microsoft Word 365 to:

- Ans**
- ☐ 1. format text as headings
 - ☒ 2. create lists for better organisation
 - ☐ 3. italicise the text
 - ☐ 4. add borders around paragraphs

Question ID : 264330180703
 Option 1 ID : 264330708781
 Option 2 ID : 264330708782
 Option 3 ID : 264330708779
 Option 4 ID : 264330708780
 Status : Answered
 Chosen Option : 3

Q.5 In MS Word 365 how can you select a paragraph in Microsoft Word?

- Ans**
- ☐ 1. Double-click anywhere within the paragraph.
 - ☐ 2. Right-click anywhere within the paragraph and choose 'Select Paragraph'.
 - ☐ 3. Press Ctrl+B to select the entire paragraph.
 - ☒ 4. Triple-click anywhere within the paragraph.

Question ID : 264330173586
 Option 1 ID : 264330680823
 Option 2 ID : 264330680826
 Option 3 ID : 264330680825
 Option 4 ID : 264330680824
 Status : Answered
 Chosen Option : 1

Q.6 In MS Excel 365, which of the following is the shortcut key in MS Excel to open a spreadsheet that is already existing?

- Ans**
- ☐ 1. Ctrl + N
 - ☒ 2. Ctrl + O
 - ☐ 3. Alt + O
 - ☐ 4. Alt + N

Question ID : 264330180399
 Option 1 ID : 264330707563
 Option 2 ID : 264330707565
 Option 3 ID : 264330707564
 Option 4 ID : 264330707566
 Status : Answered
 Chosen Option : 1

Q.7 In MS Excel 365, the shortcut key to open the custom sort is:

- Ans ☒ 1. Windows Key + A + S
☒ 2. Alt + A + S
☒ 3. Shift + A + S
☒ 4. Ctrl + A + S

Question ID : 264330175957
 Option 1 ID : 264330690126
 Option 2 ID : 264330690123
 Option 3 ID : 264330690124
 Option 4 ID : 264330690125
 Status : Answered
 Chosen Option : 4

Q.8 What is the purpose of attaching files to an email?

- Ans ☒ 1. To add decorative elements to the email
☒ 2. To format the email text
☒ 3. To share documents, images or other files with the recipient
☒ 4. To increase the size of the email

Question ID : 264330180655
 Option 1 ID : 264330708589
 Option 2 ID : 264330708588
 Option 3 ID : 264330708590
 Option 4 ID : 264330708587
 Status : Answered
 Chosen Option : 3

Q.9 In Microsoft Word 365, how can we apply different page formatting within the same document by separating areas with different formats?

- Ans ☒ 1. By Page Layout
☒ 2. By Insert
☒ 3. By Section Break
☒ 4. By Page Break

Question ID : 264330182069
 Option 1 ID : 264330714117
 Option 2 ID : 264330714118
 Option 3 ID : 264330714115
 Option 4 ID : 264330714116
 Status : Answered
 Chosen Option : 1

Q.10 एमएस एक्सेल 365 (MS Excel 365) में, स्प्रेडशीट निम्नलिखित में से किस फॉर्मेट में डिफ़ॉल्ट रूप से सेव होती है?

- Ans ☒ 1. .docx
☒ 2. .xlsx
☒ 3. .xltx
☒ 4. .doc

Question ID : 264330175952
 Option 1 ID : 264330690106
 Option 2 ID : 264330690104
 Option 3 ID : 264330690105
 Option 4 ID : 264330690103
 Status : Answered
 Chosen Option : 3