

प्रश्न पुस्तिका / QUESTION BOOKLET

पुस्तिका में पृष्ठों की संख्या / Number of Pages in Booklet : 32
 पुस्तिका में प्रश्नों की संख्या / Number of Questions in Booklet : 150
 पूर्णांक / Maximum Marks : 300 समय / Time : 3 घंटे / Hours

A11

Question Booklet Number
प्रश्न पुस्तिका क्रमांक →

इस परीक्षा पुस्तिका को तब तक न खोलें जब तक कहा न जाए।
 Do not open this test booklet until you are asked to do so.

अनुदेश / Instructions

- प्रश्न पत्र को हल करने से पहले, कृपया अपनी प्रश्न पुस्तिका और ओ.एम.आर. उत्तर-पत्रक की जांच करें और सुनिश्चित करें कि:
 - प्रश्न पुस्तिका और ओ.एम.आर. उत्तर-पत्रक की क्रम संख्या समान है।
 - प्रश्न पुस्तिका के सभी पृष्ठ ठीक से मुद्रित हैं और सभी पृष्ठों पर सारे प्रश्न मुद्रित हैं।
 किसी भी विसंगति/दोष के मामले में, अभ्यर्थी को प्रश्न पुस्तिका और ओ.एम.आर. उत्तर-पत्रक को बदलने के लिए तुरंत अभिजागर को मामले की सूचना देनी चाहिए। परीक्षा प्रारम्भ होने के पांच मिनट बाद इस संबंध में किसी भी दावे/आपत्ति पर विचार नहीं किया जाएगा। इसके लिए अभ्यर्थी उत्तरदायी होगा।
 Before attempting the question paper, kindly check your Question Booklet(QB) and O.M.R. Answer Sheet and ensure that:
 - Serial number of Question Booklet(QB) and OMR Answer Sheet is same.
 - All pages and all questions are properly printed
 In case of any discrepancy/defect, the candidate should immediately report the matter to the Invigilator for replacement of Question Booklet(QB) and OMR Answer Sheet. No claim/objection in this regard will be entertained after five minutes of start of examination, candidate will be liable for the same.
- ओएमआर उत्तर-पत्रक के पीछे दिए गए सभी निर्देश पढ़ें।
 Read all instructions on the reverse of OMR Answer Sheet.
- ओएमआर उत्तर-पत्रक पर केवल नीले बॉल प्वाइंट पेन का प्रयोग करें। कृपया, ओएमआर उत्तर-पत्रक में अपना रोल नंबर और अन्य जानकारी सही ढंग से भरें।
 On OMR Answer Sheet, use blue ball point pen only. Please, fill your Roll No. and other information correctly in OMR Answer Sheet.
- यदि किसी प्रश्न के लिए एक से अधिक उत्तर अंकित किये जाते हैं तो उसे गलत उत्तर माना जायेगा।
 If more than one response is marked for a question, it would be treated as wrong answer.
- प्रत्येक प्रश्न में पाँच विकल्प/गोले हैं। पहले चार विकल्प/गोले (A), (B), (C) और (D) उपयुक्त उत्तर से संबंधित हैं और पाँचवां विकल्प/गोला (E) 'अनुत्तरित प्रश्न' से संबंधित है।
 Each question has five options/circles. First four options/circles (A), (B), (C) and (D) are related to appropriate answer and fifth option/circle (E) is related to 'Question not attempted'.
- सही उत्तर दर्शाने के लिए अभ्यर्थी को ओ.एम.आर. उत्तर-पत्रक पर संबंधित प्रश्न संख्या के पहले चार विकल्प (A), (B), (C) या (D) में से केवल एक विकल्प/गोले को नीले बॉल प्वाइंट पेन से भरना होगा। यदि अभ्यर्थी किसी प्रश्न का उत्तर नहीं देना चाहता है तो पाँचवें विकल्प/गोले (E) को गहरा करना होगा।
 To indicate the correct answer, the candidate has to fill in only one option/circle (A), (B), (C) or (D) with blue ball point pen for respective question number on the OMR Answer Sheet. If the candidate does not want to answer any question then the fifth option/circle (E) should be darkened.
- यदि पाँच विकल्पों में से कोई भी विकल्प/गोला गहरा नहीं किया गया तो प्रश्न का 1/3 भाग अंक काट लिया जायेगा।
 1/3 part of the marks will be deducted for the questions, if none of the option/circle options are darkened.
- 10 प्रतिशत से अधिक प्रश्नों में किसी भी विकल्प/गोले को अभ्यर्थी द्वारा गहरा नहीं किया गया तो उसे परीक्षा के लिए अयोग्य घोषित कर दिया जाएगा।
 If a candidate leaves more than 10 percent questions or does not darken any of the five options, he/she will be disqualified for the exam.
- अभ्यर्थी को प्रत्येक प्रश्न के लिए कम से कम एक विकल्प/गोला भरा है या नहीं यह सुनिश्चित करने के लिए 10 मिनट अतिरिक्त दिए जाएंगे।
 Candidate will be given 10 minutes extra to make sure, if he/she has filled up any one option/circle for each questions.
- यदि प्रश्न के हिन्दी या अंग्रेजी संस्करण में मुद्रण या तथ्यात्मक प्रकृति की किसी भी प्रकार की अस्पष्ट/गलती है, तो अंग्रेजी संस्करण को अंतिम माना जाएगा।
 If there is any sort of ambiguity / mistake either of printing or factual in nature in Hindi or English version of questions, then the English Version will be treated as final.
- परीक्षा हॉल में मोबाइल फोन/ब्लूटूथ डिवाइस या किसी अन्य इलेक्ट्रॉनिक गैजेट का उपयोग सख्त वर्जित है। यदि किसी अभ्यर्थी के पास ऐसी कोई प्रतिबंधित सामग्री पाई गई तो उसके विरुद्ध नियमानुसार सख्त कार्रवाई की जाएगी।
 Use of Mobile Phone / Bluetooth Device or any other electronic gadget in the examination hall is strictly prohibited. If any such prohibited material is found with any candidate, strict action will be taken against him/her as per rules.

चेतावनी : यदि कोई अभ्यर्थी नकल करते हुए पाया जाता है या अनुचित तरीके अपनाते हुए पाया जाता है या उसके पास कोई अनाधिकृत सामग्री पाई जाती है तो उसके खिलाफ पुलिस स्टेशन में एफ.आई.आर. दर्ज की जाएगी और वह राज्य सार्वजनिक परीक्षा अधिनियम, 2022 और संशोधन अधिनियम 2023, (भर्ती में अनुचित साधनों की रोकथाम के अध्यापय) के तहत मुकदमा चलाने के लिए उत्तरदायी होगा जिसमें 10 वर्ष से आजीवन कारावास तथा ₹ 1 करोड़ तक का प्रावधान है। उसे बोर्ड की भविष्य की सभी परीक्षाओं से स्थायी रूप से विवर्जित भी किया जा सकता है।

Warning : If a candidate is found copying or using unfair means or if any unauthorized material is found in his/her possession, F.I.R will be lodged against him/her in the Police Station and he/she would be liable to be prosecuted under State Public Examination (Measures for Preventions of Unfair Means in Recruitment) Act, 2022 and Amendment Act 2023. The act has provisions of imprisonment of 10 years to life and fine up to ₹ 1 crore. Board may also debar him/her permanently from all future examinations conducted by the Board.

Test Prime

**ALL EXAMS,
ONE SUBSCRIPTION**



70,000+
Mock Tests



**Personalised
Report Card**



**Unlimited
Re-Attempt**



600+
Exam Covered



**Previous Year
Papers**



500%
Refund



ATTEMPT FREE MOCK NOW

1 Overwhelmed by the beauty of which of the following forts did British Historian James Tod say that - if he was offered a jagir in Rajasthan, he would choose that fort ?

- (A) Chittorgarh Fort (B) Taragarh Fort
(C) Bhainsogarh Fort (D) Nahargarh Fort
(E) Question not attempted

निम्नलिखित में से किस किले की सुंदरता से अभिभूत होकर ब्रिटिश इतिहासकार जेम्स टॉड ने कहा कि, “यदि उन्हें राजस्थान में किसी जागीर की पेशकश की जाएगी, तब वह इस किले को चुनेंगे ?

- (A) चित्तौड़गढ़ किला (B) तारागढ़ किला
(C) भैंसोगढ़ किला (D) नाहरगढ़ किला
(E) अनुत्तरित प्रश्न

2 Which language is spoken in the areas of Banswara, Dungarpur and the nearby hilly areas?

- (A) Hadoti (B) Mewati
(C) Vagri (D) Shekhawati
(E) Question not attempted

बाँसवाड़ा, डूंगरपुर और इसके आसपास के पहाड़ी क्षेत्रों में कौन सी भाषा बोली जाती है?

- (A) हाड़ोती (B) मेवाती
(C) वागड़ी (D) शेखावाटी
(E) अनुत्तरित प्रश्न

3 In which year was Kalbelia dance form included in UNESCO's intangible heritage list?

कालबेलिया नृत्य कला रूप को यूनेस्को की अमूर्त विरासत सूची में किस वर्ष में सम्मिलित किया गया था?

- (A) 2008 (B) 2009
(C) 2010 (D) 2011
(E) Question not attempted / अनुत्तरित प्रश्न

4 किस समास में सभी पद प्रधान होते हैं?

- (A) अव्ययीभाव (B) तत्पुरुष
(C) बहुव्रीहि (D) द्वंद्व
(E) अनुत्तरित प्रश्न

5 क्रिया या धातु के अंत में लगाए जाने वाले प्रत्यय कहलाते हैं-

- (A) तद्धित प्रत्यय (B) स्त्री प्रत्यय
(C) कृत प्रत्यय (D) ऊनवाचक तद्धित प्रत्यय
(E) अनुत्तरित प्रश्न

6 इनमें से कौन-सा शब्द 'अमिय' का पर्यायवाची नहीं है?

- (A) पीयूष (B) सुधा
(C) कृशानु (D) जीवनोदक
(E) अनुत्तरित प्रश्न

7 नीचे दो कथन दिए गए हैं :

कथन - I : विराम चिह्नों का प्रयोग विराम या रुकने के लिए किया जाता है।

कथन - II : विराम चिह्नों के गलत प्रयोग से अर्थ का अनर्थ भी हो जाता है।

उपर्युक्त कथनों के आलोक में निम्नलिखित विकल्पों में से **सर्वाधिक उपयुक्त** उत्तर चुनें :

- (A) कथन I और II दोनों सही हैं। (B) कथन I और II दोनों गलत हैं।
(C) कथन I सही है, किन्तु कथन II गलत है। (D) कथन I गलत है, किन्तु कथन II सही है।
(E) अनुत्तरित प्रश्न

8 628, 429, 183, 249, 416

From the above sequence of given numbers, what is the sum of the unit digit of third number from left and tens digit of the fourth number from the right?

ऊपर दी गयी संख्याओं के क्रम में, बाँये से तीसरे स्थान की संख्या के इकाई अंक व दाँये से चौथे स्थान की संख्या के दहाई अंक का योग है?

- (A) 3 (B) 5
(C) 7 (D) 6
(E) Question not attempted / अनुत्तरित प्रश्न

9 Sushil is the son-in-law of Bhumi's maternal grandmother Sangita. Ravi is the only son-in-law of Bhumi's mother. How Ravi is related to Sangita?

- (A) Grandson (B) Uncle
(C) Husband of granddaughter (D) Brother-in-law
(E) Question not attempted

सुशील भूमि की नानी संगीता का दामाद है। रवि भूमि की माता का एक मात्र दामाद है। रवि का संगीता से क्या संबंध है?

- (A) पौत्र (B) अंकल
(C) पौत्री का पति (D) ब्रदर इन लॉ
(E) अनुत्तरित प्रश्न

10 If 'threat' is coded as 289512, then 'BRIDGESTONE' will be coded as:

यदि 'threat' को कोड में 289512 व्यक्त किया जाता है, तो 'BRIDGESTONE' का कोड होगा:

- (A) 27947513855 (B) 29947612955
(C) 28947612855 (D) 29947512655
(E) Question not attempted / अनुत्तरित प्रश्न

11 In Rajasthan putting a gold nail between the teeth is known as:-

- (A) Daamna (B) Baari
(C) Choonp (D) Borla
(E) Question not attempted

राजस्थान में दांतों के बीच में सोने की कील लगाने की कला को क्या कहा जाता है?

- (A) दामना (B) बारी
(C) चूँप (D) बोरला
(E) अनुत्तरित प्रश्न

12 In which Rajasthani folk dance, dhol, bankiya and thali are used as the main instruments?

- (A) Ghudla (B) Chang
(C) Dandiya (D) Gair
(E) Question not attempted

राजस्थान के किस लोक नृत्य में ढोल, बांकिया और थाली का प्रयोग मुख्य वाद्य-यंत्र के रूप में किया जाता है?

- (A) घुडला (B) चंग
(C) डांडिया (D) गैर
(E) अनुत्तरित प्रश्न

13 Where is Nataniyon Ki Haveli situated?

- (A) Jhunjhunu (B) Churu
(C) Jaipur (D) Lakshmangarh
(E) Question not attempted

नाटाणियों की हवेली कहाँ पर स्थित है?

- (A) झुंझुनू (B) चुरू
(C) जयपुर (D) लक्ष्मणगढ़
(E) अनुत्तरित प्रश्न

14 Who among the following established mobile reading rooms and libraries at various places in Rajasthan?

- (A) Pt. Jhabar Mal Sharma (B) Acharya Tulsi
(C) Swami Keshwanand (D) Komal Kothari
(E) Question not attempted

निम्नलिखित में से किसने राजस्थान के विभिन्न स्थानों पर मोबाईल रीडिंग रूम एवं पुस्तकालयों की स्थापना की?

- (A) पण्डित झाबर मल शर्मा (B) आचार्य तुलसी
(C) स्वामी केशवानंद (D) कोमल कोठारी
(E) अनुत्तरित प्रश्न

15 Which of the following leaders led the Bijolia movement?

- (A) Vijay Singh Pathik (B) Chuna Ram Punia
(C) Kanwar Vijay Pal (D) Surendra Singh
(E) Question not attempted

निम्नलिखित में से किसने बिजोलिया आंदोलन का नेतृत्व किया?

- (A) विजय सिंह पथिक (B) चूना राम पुनिया
(C) कंवर विजय पाल (D) सुरेंद्र सिंह
(E) अनुत्तरित प्रश्न

16 Which of the following sector plays most important role in the economy of Rajasthan state?

- (A) Industry Sector (B) Health Sector
(C) Agriculture Sector (D) Education Sector
(E) Question not attempted

राजस्थान राज्य में निम्न में से कौन सा क्षेत्र, अत्यधिक रूप से आर्थिक महत्व का माना जाता है?

- (A) उद्योग क्षेत्र (B) स्वास्थ्य क्षेत्र
(C) कृषि क्षेत्र (D) शिक्षा क्षेत्र
(E) अनुत्तरित प्रश्न

17 Which of the following are cash crops of Rajasthan state? (Choose the most appropriate option from below)

- (A) Cotton and Tobacco (B) Tea and Sugarcane
(C) Coffee and Cereals (D) Soyabean and Cocoa
(E) Question not attempted

निम्नलिखित में से कौन सी राजस्थान राज्य की नगदी (कैश) फसले हैं? (निम्न में से सबसे उपयुक्त विकल्प चुनें)

- (A) कपास और तम्बाकू (B) चाय और गन्ना
(C) कॉफी और अनाज (D) सोयाबीन और कोको
(E) अनुत्तरित प्रश्न

18 निम्नलिखित में से 'आजीविका' का शुद्ध रूप है-

- (A) अजीविका (B) अजिविका
(C) आजीविका (D) आजिविका
(E) अनुत्तरित प्रश्न

19 इनमें से कौन-सा वाक्य अशुद्ध है?

- (A) घनश्याम की पाँच दरियाँ या एक कंबल बिकेगा। (B) घनश्याम की पाँच दरियाँ या एक कंबल बिकेंगे।
(C) घनश्याम का एक कंबल या पाँच दरियाँ बिकेंगी। (D) घनश्याम की पाँच दरियाँ या पाँच कंबल बिकेंगे।
(E) अनुत्तरित प्रश्न

20 सूची-I के साथ सूची-II का मिलान कीजिए।

सूची-I

- a. कलम तोड़ना
b. खेत रहना या आना
c. चाँद पर थूकना
d. कलेजा ठंडा होना

सूची-II

- I. संतोष होना
II. सम्माननीय का अनादर करना
III. बढ़िया लिखना
IV. वीरगति पाना

नीचे दिए गए विकल्पों में से सर्वाधिक उपयुक्त उत्तर का चयन कीजिए:

- (A) a - III, b - II, c - IV, d - I (B) a - IV, b - III, c - I, d - II
(C) a - II, b - IV, c - III, d - I (D) a - III, b - IV, c - II, d - I
(E) अनुत्तरित प्रश्न

21 निम्न में से किस नियम के अंतर्गत हिंदी के प्रगामी प्रयोग को प्रभावी ढंग से लागू करने के उद्देश्य से पूरे भारत को तीन क्षेत्रों में बाँटा गया है?

- (A) राजभाषा अधिनियम, 1963 (B) राजभाषा अधिनियम, 1967
(C) राजभाषा नियम, 1973 (D) राजभाषा नियम, 1976
(E) अनुत्तरित प्रश्न

22 Who was awarded Major Dhyan Chand Khel Ratna Award 2022 for Table Tennis?

- (A) Kamlesh Mehta (B) Manika Batra
(C) Sharath Kamal Achanta (D) Soumyajit Ghosh
(E) Question not attempted

किस खिलाड़ी को टेबल टेनिस हेतु मेजर ध्यान चंद खेल रत्न पुरस्कार 2022 प्रदान किया गया?

- (A) कमलेश मेहता (B) मनिका बत्रा
(C) शरत कमल अचंता (D) सौम्यजीत घोष
(E) अनुत्तरित प्रश्न

23 Which one of the following is **not** a Fundamental Right under the Constitution of India?

- (A) Right to Education (B) Right to Property
(C) Right of Equality (D) Right of Freedom
(E) Question not attempted

निम्नलिखित में से कौन सा भारतीय संविधान के तहत मौलिक अधिकार **नहीं** है?

- (A) शिक्षा का अधिकार (B) संपत्ति का अधिकार
(C) समानता का अधिकार (D) स्वतंत्रता का अधिकार
(E) अनुत्तरित प्रश्न

24 Salt water crocodile is main fauna of which of the following biosphere reserves?

- (A) Simlipal (B) Great Nicobar
(C) Kutch (D) Panna
(E) Question not attempted

खारे पानी का मगरमच्छ, निम्नलिखित में से किस जीवमंडल रिजर्व का मुख्य जीव है?

- (A) सिमलिपाल (B) ग्रेट निकोबार
(C) कच्छ (D) पन्ना
(E) अनुत्तरित प्रश्न

25 Which among the following is the longest river of Rajasthan?

- (A) Chambal (B) Luni
(C) Sabarmati (D) Khari
(E) Question not attempted

निम्नलिखित में से राजस्थान की सबसे लम्बी नदी कौन सी है?

- (A) चंबल (B) लूनी
(C) साबरमती (D) खारी
(E) अनुत्तरित प्रश्न

26 The Thar desert comprises the desert triangle of three cities - (Choose the most appropriate option from below)

- (A) Jaisalmer - Jodhpur - Barmer (B) Bikaner - Jaisalmer - Pali
(C) Bikaner - Jaisalmer - Barmer (D) Jaisalmer - Jodhpur - Bikaner
(E) Question not attempted

थार रेगिस्तान में तीन शहरों का रेगिस्तानी त्रिकोण शामिल है, वह है - (निम्न में से सबसे उपयुक्त विकल्प चुनें)

- (A) जैसलमेर - जोधपुर - बाड़मेर (B) बीकानेर - जैसलमेर - पाली
(C) बीकानेर - जैसलमेर - बाड़मेर (D) जैसलमेर - जोधपुर - बीकानेर
(E) अनुत्तरित प्रश्न

27 Barkana water falls is situated in which of the following state of India?

- (A) Karnataka (B) Goa
(C) Tamil Nadu (D) Odisha
(E) Question not attempted

निम्नलिखित राज्यों में से भारत के किस राज्य में बरकाना जलप्रपात स्थित है?

- (A) कर्नाटक (B) गोवा
(C) तमिलनाडु (D) ओडिशा
(E) अनुत्तरित प्रश्न

28 Which of the following mineral is non-metallic and inorganic?

- (A) Natural Gas (B) Coal
(C) Petroleum (D) Graphite
(E) Question not attempted

निम्नलिखित में से कौन सा खनिज अधात्विक एवं अकार्बनिक है?

- (A) प्राकृतिक गैस (B) कोयला
(C) पेट्रोलियम (D) ग्रेफाइट
(E) अनुत्तरित प्रश्न

29 Which of the following is **not** a type of Iron ore?

- (A) Siderite (B) Limonite
(C) Magnetite (D) Lignite
(E) Question not attempted

निम्नलिखित में से कौन लौह अयस्क का प्रकार **नहीं** है?

- (A) लोह उल्का (सिडेराइट) (B) लिमोनाइट
(C) मैग्नेटाइट (D) लिग्नाइट
(E) अनुत्तरित प्रश्न

30 The length, breadth and height of room are 12 m, 9 m and 8 m respectively. The length of the longest bamboo pole that can be placed in it, is:

- (A) 19 m (B) 18 m
(C) 17 m (D) 15 m
(E) Question not attempted

एक कमरा 12 मी लम्बा, 9 मी चौड़ा और 8 मी ऊँचा है। इसमें रखे जा सकने वाले बांस के डंडे की अधिकतम लंबाई ज्ञात कीजिए।

- (A) 19 मी (B) 18 मी
(C) 17 मी (D) 15 मी
(E) अनुत्तरित प्रश्न

31 The inner circumference of a circular path around a circular lawn is 660 m. What is the radius (in meter) of the outer circumference of the path, if the path is 14 m wide?

- (A) 110 m (B) 119 m
(C) 115 m (D) 84 m
(E) Question not attempted

एक गोलाकार बाग के चारों ओर वर्तुलपथ की आंतरिक परिधि 660 मीटर है। यदि पथ 14 मीटर चौड़ा हो तो इसकी बाह्य परिधि की त्रिज्या, (मीटर में) क्या होगी?

- (A) 110 मीटर (B) 119 मीटर
(C) 115 मीटर (D) 84 मीटर
(E) अनुत्तरित प्रश्न

32 A shopkeeper sold an article for ₹ 400 at a loss of 20%. At what price he should sell the article to make a profit of 10%?

एक दुकानदार ने किसी वस्तु को 20% की हानि पर ₹ 400 में बेचा। 10% का लाभ कमाने के लिए, उसे उस वस्तु को किस कीमत पर बेचना चाहिए?

- (A) ₹ 550 (B) ₹ 500
(C) ₹ 520 (D) ₹ 530
(E) Question not attempted / अनुत्तरित प्रश्न

- 33 Which of the following is the application of computer mostly used in medical field?
- (A) To create advertisement (B) To visualize 3D objects
(C) To provide distance education (D) To provide assistance in surgery
(E) Question not attempted

निम्नलिखित में से कम्प्यूटर का कौन-सा एप्लीकेशन मुख्यतः चिकित्सीय क्षेत्र से संबंधित है?

- (A) विज्ञापन का सृजन करना (B) 3डी ऑब्जेक्ट्स को स्पष्ट देखना
(C) दूरस्थ शिक्षा प्रदान करना (D) शल्य चिकित्सा में सहायता देना
(E) अनुत्तरित प्रश्न

- 34 Which of the following is **not** the class/category of computers?

- (A) Micro Computer (B) Mini Computer
(C) Mainframe Computer (D) Parallel Computing
(E) Question not attempted

निम्नलिखित में से कौन-सी कम्प्यूटर के वर्ग/श्रेणी में **नहीं** है?

- (A) माइक्रो कम्प्यूटर (B) मिनी कम्प्यूटर
(C) मेनफ्रेम कम्प्यूटर (D) पैरेलल कम्प्यूटिंग
(E) अनुत्तरित प्रश्न

- 35 Which Indian has won the 2023 Ramon Magsaysay Award? (Choose the most appropriate option from below)

- (A) Kailash Vidyarthi (B) Ghazal Alagh
(C) Gautam Adani (D) Ravi Kannan
(E) Question not attempted

किस भारतीय ने 2023 का रेमन मैग्सेसे पुरस्कार जीता? (निम्न में से सबसे उपयुक्त विकल्प चुनें)

- (A) कैलाश विद्यार्थी (B) गजल अलघ
(C) गौतम अडानी (D) रवि कन्नन
(E) अनुत्तरित प्रश्न

- 36 Who was the Deputy Prime Minister and first Home Minister of Independent India?

- (A) Mahatma Gandhi (B) C. Raj Gopalachari
(C) Sardar Vallabhbhai Patel (D) Rafi Ahmad Kidwai
(E) Question not attempted

स्वतंत्र भारत के पहले उप-प्रधानमंत्री और गृह मंत्री कौन थे?

- (A) महात्मा गाँधी (B) सी. राज गोपालाचारी
(C) सरदार वल्लभभाई पटेल (D) रफी अहमद किदवाई
(E) अनुत्तरित प्रश्न

- 37 After the partition of India in 1947, which of the following archaeological sites remained on the Indian side ?

- (A) Harappa (B) Mohenjodaro
(C) Gunveriewala (D) Kalibangan
(E) Question not attempted

1947 में भारत के विभाजन के बाद निम्नलिखित में से कौन सा पुरातात्विक स्थल भारत के तरफ के क्षेत्र में रह गया ?

- (A) हड़प्पा (B) मोहनजोदड़ो
(C) गंवेरीवाला (D) कालीबंगा
(E) अनुत्तरित प्रश्न

38 Who is the family deity of Bikaner royal family?

- (A) Karni Mata (B) Jeen Mata
(C) Sakraya Mata (D) Aai Mata
(E) Question not attempted

कौन बीकानेर राजपरिवार की कुलदेवी हैं?

- (A) करणी माता (B) जीण माता
(C) सकराय माता (D) आई माता
(E) अनुत्तरित प्रश्न

39 As per the Constitution of India, the name of a state in the Union of India can be altered by -

- (A) Cabinet Committee (B) Governor
(C) President (D) Parliament
(E) Question not attempted

भारत के संविधान के अनुसार, संघीय भारत के किसी राज्य का नाम निम्नलिखित में से किसके द्वारा परिवर्तित किया जा सकता है?

- (A) मंत्रिमंडल समिति (B) राज्यपाल
(C) राष्ट्रपति (D) संसद
(E) अनुत्तरित प्रश्न

40 When was Rajasthan Information Commission constituted ?

- (A) April 18, 2005 (B) April 18, 2006
(C) April 28, 2005 (D) April 28, 2006
(E) Question not attempted

राजस्थान सूचना आयोग का गठन कब हुआ?

- (A) 18 अप्रैल, 2005 (B) 18 अप्रैल, 2006
(C) 28 अप्रैल, 2005 (D) 28 अप्रैल, 2006
(E) अनुत्तरित प्रश्न

41 Which of the following position is **not** mentioned in the Constitution of India?

- (A) Prime Minister (B) Chief Minister
(C) Deputy Chief Minister (D) Loksabha Speaker
(E) Question not attempted

निम्नलिखित में से कौन-से पद का भारतीय संविधान में उल्लेख **नहीं** किया गया है?

- (A) प्रधानमंत्री (B) मुख्यमंत्री
(C) उप मुख्यमंत्री (D) लोकसभा अध्यक्ष
(E) अनुत्तरित प्रश्न

42 Who among the following commonly serves as the Chancellor of State Universities?

- (A) Prime Minister (B) Minister of Education
(C) Chief Minister (D) Governor
(E) Question not attempted

निम्नलिखित में से प्रायः कौन राज्य विश्वविद्यालयों के कुलाधिपति के रूप में कार्य करता है?

- (A) प्रधानमंत्री (B) शिक्षा मंत्री
(C) मुख्यमंत्री (D) राज्यपाल
(E) अनुत्तरित प्रश्न

43 Given below are two statements:

Statement (I): In April 1919, the Udaipur state government formed a Commission under the chairmanship of Mandalgarh Hakim Bindulal Bhattacharya, in order to listen to the Complaints of Bijolia farmers. The Commission advocated various recommendations for the benefit of the farmers.

Statement (II): Officers of the Foreign Ministry of Indian government believed that a quick alliance should be made with the Bijoliya Kisan Panchayat, otherwise the peasant movement may take a violent form in Rajputana.

In light of the above statements, choose the **most appropriate** answer from the options given below.

- (A) Both Statement (I) and Statement (II) are correct.
(B) Both Statement (I) and Statement (II) are incorrect.
(C) Statement (I) is correct but Statement (II) is incorrect.
(D) Statement (I) is incorrect but Statement (II) is correct.
(E) Question not attempted

नीचे दो कथन दिए गए हैं:

कथन (I): बिजोलिया किसानों की समस्याओं को सुनने के लिए, उदयपुर की राज्य सरकार ने अप्रैल 1919 में, एक आयोग का गठन माण्डलगढ़ हाकीम बिन्दूलाल भट्टाचार्य की अध्यक्षता में गठित किया। आयोग ने किसानों के हित के लिए अनेक अनुशंसाएँ की।

कथन (II): भारतीय सरकार के विदेश मंत्रालय के अधिकारियों का मानना था कि बिजोलिया किसान पंचायत से गठबंधन की तुरन्त स्थापना की जाए अन्यथा राजपूताना में किसान आंदोलन एक हिंसात्मक रूप ले सकता है।

उपरोक्त कथनों के आलोक में, नीचे दिए गए विकल्पों में से **सबसे उपयुक्त** उत्तर चुनें।

- (A) कथन (I) और कथन (II) दोनों सही हैं।
(B) कथन (I) और कथन (II) दोनों ही गलत हैं।
(C) कथन (I) सही है लेकिन कथन (II) गलत है।
(D) कथन (I) गलत है लेकिन कथन (II) सही है।
(E) अनुत्तरित प्रश्न

44 Who of the following social reformers was associated with the abolition of Sati Pratha?

- (A) Vivekanand
(B) Dayanand Saraswati
(C) Raja Ram Mohan Roy
(D) Govind Ranade
(E) Question not attempted

निम्नलिखित समाज सुधारक में से कौन सती प्रथा उन्मूलन के साथ जुड़े हुए थे?

- (A) विवेकानंद
(B) दयानंद सरस्वती
(C) राजा राम मोहन राय
(D) गोविंद रानाडे
(E) अनुत्तरित प्रश्न

45 “The Indian War of Independence”, book was written by whom?

- (A) Mahatma Gandhi
(B) R. C. Majumdar
(C) Baba Amte
(D) Veer Savarkar
(E) Question not attempted

“द इंडियन वॉर ऑफ इंडिपेंडेंस”, पुस्तक किसके द्वारा लिखी गई?

- (A) महात्मा गाँधी
(B) आर. सी. मजूमदार
(C) बाबा आमटे
(D) वीर सावरकर
(E) अनुत्तरित प्रश्न

46 In which of the following year United Nations adopted the UN guidelines for consumer protection?

संयुक्त राष्ट्र ने निम्न में से किस वर्ष में उपभोक्ता संरक्षण के लिए संयुक्त राष्ट्र के दिशा निर्देशों को अपनाया?

- (A) 1979
(B) 1981
(C) 1983
(D) 1985
(E) Question not attempted / अनुत्तरित प्रश्न

47 Which among the following organizations control the business of Insurance in India?

- (A) RBI (B) LIC
(C) IRDAI (D) SEBI
(E) Question not attempted

निम्नलिखित में से कौन सी संस्था भारत में बीमा उद्योग को नियंत्रित करती है?

- (A) आर. बी. आई. (B) एल. आई. सी.
(C) आई. आर. डी. ए. आई. (D) सेबी
(E) अनुत्तरित प्रश्न

48 NITI AAYOG was established on: (Choose the most appropriate option from below)

- (A) 1st January, 2014 (B) 15th August, 2014
(C) 15th August, 2015 (D) 1st January, 2015
(E) Question not attempted

नीति आयोग की स्थापना की गई थी: (निम्न में से सबसे उपयुक्त विकल्प चुनें)

- (A) 1 जनवरी, 2014 (B) 15 अगस्त, 2014
(C) 15 अगस्त, 2015 (D) 1 जनवरी, 2015
(E) अनुत्तरित प्रश्न

49 Which of the following statement is **not** correct about the Tertiary Coal?

- (A) It is also known as the brown Coal.
(B) It is an inferior quality Coal.
(C) It contributes to about 25% of the total coal production of the country.
(D) It is found in the rocks of the oligocene period of the Tertiary Era.
(E) Question not attempted

निम्नलिखित में से कौन सा कथन तृतीयक कोयले के संदर्भ में सही **नहीं** है?

- (A) इसे भूरा कोयला के नाम से भी जाना जाता है।
(B) यह निम्न गुणवत्ता का कोयला होता है।
(C) यह देश के कुल कोयला उत्पादन में 25% का अंशदान देता है।
(D) यह तृतीयक युग के ओलिगोसिन काल की चट्टानों में पाया जाता है।
(E) अनुत्तरित प्रश्न

50 Karewa formation are useful for the cultivation of _____.

- (A) Zafran/Saffron (B) Cotton
(C) Jute (D) Coffee
(E) Question not attempted

करेवा बनावट (फोर्मेशन) किसकी खेती के लिए उपयोगी है?

- (A) केसर (B) कपास
(C) जूट (D) कॉफी
(E) अनुत्तरित प्रश्न

51 Which of the following river is right bank tributary of the Ganga River System?

- (A) Ramganga (B) Son
(C) Gomti (D) Ghaghara
(E) Question not attempted

निम्नलिखित में से कौन सी नदी, गंगा नदी प्रणाली की दाहिनी सहायक नदी है?

- (A) रामगंगा (B) सोन
(C) गोमती (D) घाघरा
(E) अनुत्तरित प्रश्न

52 Son river is a tributary of which of the following?

- (A) Ganga (B) Yamuna
(C) Mahanadi (D) Narmada

(E) Question not attempted

सोन नदी निम्न में से किसकी सहायक नदी है?

- (A) गंगा (B) यमुना
(C) महानदी (D) नर्मदा
(E) अनुत्तरित प्रश्न

53 The Southern most Himalayas are known as _____.

- (A) Shiwalik (B) Himadri
(C) Himachal (D) Aravali

(E) Question not attempted

सुदूर (सबसे) दक्षिण हिमालय को किस नाम से जाना जाता है ?

- (A) शिवालिक (B) हिमाद्री
(C) हिमाचल (D) अरावली
(E) अनुत्तरित प्रश्न

54 Which one of the following is the oldest oil refinery in India?

- (A) Mathura refinery (B) Koyali refinery
(C) Digboi refinery (D) Haldia refinery

(E) Question not attempted

निम्नलिखित में से भारत की प्राचीनतम तेल रिफाइनरी कौन-सी है ?

- (A) मथुरा रिफाइनरी (B) कोयली रिफाइनरी
(C) डिगबोई रिफाइनरी (D) हल्दिया रिफाइनरी
(E) अनुत्तरित प्रश्न

55 'Doddabetta' is the highest peak in Tamil Nadu. This is a part of which of the following famous mountain range?

- (A) Nilgiri Mountains (B) Aravali Mountains
(C) Satpura Mountains (D) Pir Panjal Mountains

(E) Question not attempted

'डोडाबेट्टा' तमिलनाडु की सबसे उच्चतम चोटी है। यह निम्न में से कौन-सी प्रसिद्ध पर्वत श्रृंखला का एक भाग है?

- (A) नीलगिरी पर्वत (B) अरावली पर्वत
(C) सतपुड़ा पहाड़ियाँ (D) पीर पंजाल पर्वत
(E) अनुत्तरित प्रश्न

56 Choose the **most appropriate** Hindi word for - "Endorsement".

- (A) प्रयत्न करना (B) पृष्ठांकन करना
(C) प्रदान करना (D) जारी करना
(E) Question not attempted

57 Which of the following best describes the function of control unit?

- (A) Control the operations of memory, processor and input/output devices.
- (B) Perform the logical operations.
- (C) Convert the external data to form understood by computer.
- (D) Perform the arithmetic operations.
- (E) Question not attempted

निम्नलिखित में से कौन, कंट्रोल यूनिट के कार्यों का सर्वोत्तम वर्णन करता है?

- (A) मेमोरी, प्रोसेसर और इनपुट/आउटपुट उपकरणों के परिचालन का नियंत्रण
- (B) तर्कयुक्त परिचालन का निष्पादन
- (C) बाह्य (एक्सटर्नल) डाटा को कम्प्यूटर समझे ऐसे स्वरूप में परिवर्तित करना
- (D) अंकगणितीय परिचालन का निष्पादन
- (E) अनुत्तरित प्रश्न

58 Which of the following facility is mainly provided by E-mitrplus initiative of Rajasthan?

- (A) To apply for birth certificate, domicile etc.
- (B) Payment facility for individual firms
- (C) GIS based Decision Support System
- (D) Video conferencing
- (E) Question not attempted

निम्नलिखित में से कौन सी सुविधा मुख्यतः राजस्थान की ई-मित्रप्लस पहल द्वारा प्रदान की जाती है?

- (A) जन्म प्रमाण पत्र, अधिवास के लिए आवेदन पत्र
- (B) विशिष्ट प्रतिष्ठानों को भुगतान की सुविधा देना
- (C) जी. आई. एस. आधारित निर्णय सहायक प्रणाली
- (D) वीडियो कॉन्फ्रेंसिंग
- (E) अनुत्तरित प्रश्न

59 Which of the following tax generates maximum amount of revenue for the Government of India?

- (A) Income Tax
- (B) Sales Tax
- (C) Custom Duties
- (D) Corporate Tax
- (E) Question not attempted

निम्नलिखित में से कौन सा कर, भारत सरकार के लिए सर्वाधिक राजस्व का उपार्जन करता है?

- (A) आय कर
- (B) बिक्री कर
- (C) सीमा शुल्क
- (D) निगमित (कॉरपोरेट) कर
- (E) अनुत्तरित प्रश्न

60 Which of the following is outside the ambit of GST?

- (A) Natural Gas
- (B) Tobacco
- (C) Alcoholic Liquor
- (D) Motor Spirit
- (E) Question not attempted

निम्नलिखित में से कौन वस्तु एवं सेवा कर की परिधि से बाहर है?

- (A) प्राकृतिक गैस
- (B) तंबाकू
- (C) मादक पेय
- (D) वाहन स्पिरिट
- (E) अनुत्तरित प्रश्न

61 Which of the following is an example of joint sector industry? (Choose the most appropriate option from below)

- (A) Hindustan Aeronautics Limited (B) Oil India Limited
(C) Steel Authority of India Limited (D) Bharat Heavy Electricals Limited
(E) Question not attempted

निम्नलिखित में से कौन सा संयुक्त क्षेत्र उद्योग का एक उदाहरण है? (निम्न में से सबसे उपयुक्त विकल्प चुनें)

- (A) हिंदुस्तान एरोनॉटिक्स लिमिटेड (B) ऑयल इंडिया लिमिटेड
(C) स्टील अथॉरिटी ऑफ इंडिया लिमिटेड (D) भारत हेवी इलेक्ट्रिकल्स लिमिटेड
(E) अनुत्तरित प्रश्न

62 Which of the following is a mineral-based industry?

- (A) Textile Industry (B) Fish Oil Industry
(C) Petrochemicals Industry (D) Food Processing Industry
(E) Question not attempted

निम्नलिखित में से कौन सा खनिज आधारित उद्योग है?

- (A) वस्त्र उद्योग (B) मत्स्य उद्योग
(C) पेट्रोकेमिकल उद्योग (D) खाद्य प्रसंस्करण उद्योग
(E) अनुत्तरित प्रश्न

63 Which of the following statement is not correct about the Chhota Nagpur Plateau Industrial region?

- (A) This region is popularly known as "Ruhr of India".
(B) This region extends over Jharkhand, Chhattisgarh and Andhra Pradesh.
(C) Ranchi, Dhanbad, Chaibasa, Sindri are some important industrial centres of this region.
(D) This region owes its development to being rich in iron ore from Jharkhand-Odisha and coal from Damodar Valley.
(E) Question not attempted

निम्नलिखित में से कौन सा कथन छोटा नागपुर पठार औद्योगिक क्षेत्र के संदर्भ में सही नहीं है?

- (A) यह क्षेत्र "भारत के रूहर", नाम से विख्यात है।
(B) यह क्षेत्र झारखंड, छत्तीसगढ़ और आंध्र प्रदेश तक फैला हुआ है।
(C) रांची, धनबाद, चाईबासा, सिंदरी, इस क्षेत्र के महत्वपूर्ण औद्योगिक केंद्र हैं।
(D) इस क्षेत्र का विकास झारखंड-ओडिशा से लौह अयस्क और दामोदर घाटी के कोयले से समृद्ध होने के कारण हुआ है।
(E) अनुत्तरित प्रश्न

64 The concept of 'equality before law' is an element of the concept of 'Rule of Law' which was propounded by -

- (A) Paul Janet (B) A.V. Dicey
(C) Lord Acton (D) Ivor Jennings
(E) Question not attempted

'कानून के समक्ष समानता' की अवधारणा 'कानून के शासन' की अवधारणा का एक तत्व है। इसे किसके द्वारा प्रतिपादित किया गया था?

- (A) पॉल जेनेट (B) ए.वी. डाइसी
(C) लॉर्ड एक्टन (D) आईवर जेनिंग्स
(E) अनुत्तरित प्रश्न

65 Match List-I with List-II.

- List-I**
- Chipko Movement
 - Bandung Conference
 - Dr. P.C. Mahalanobis
 - Bombay Plan

- List-II**
- Afro Asian Conference
 - A proposal made by big industrialists in 1944 for setting up a planned economy
 - An environment movement to prevent cutting down of trees
 - Economist under whose leadership the Second Five Year Plan was drafted

सूची-I के साथ सूची-II का मिलान कीजिए।

- सूची-I**
- चिपको आंदोलन
 - बांडुंग सम्मेलन
 - डॉ. पी.सी. महालनोबिस
 - बॉम्बे प्लान

- सूची-II**
- एफ्रो- एशियन सम्मेलन
 - एक नियोजित अर्थव्यवस्था स्थापित करने के लिए 1944 में बड़े उद्योगपतियों द्वारा किया गया एक प्रस्ताव
 - पेड़ों की कटाई रोकने के लिए एक पर्यावरण आंदोलन
 - अर्थशास्त्री जिनके नेतृत्व में दूसरी पंचवर्षीय योजना का मसौदा तैयार किया गया था

Choose the **most appropriate** answer from the options given below:

नीचे दिए गए विकल्पों में से **सर्वाधिक उपयुक्त** उत्तर चुनें।

- | | |
|---|------------------------------------|
| (A) a - I, b - III, c - IV, d - II | (B) a - II, b - I, c - IV, d - III |
| (C) a - III, b - I, c - IV, d - II | (D) a - II, b - III, c - IV, d - I |
| (E) Question not attempted / अनुत्तरित प्रश्न | |

66 The famous speech by Pt. Jawahar Lal Nehru, addressed on the midnight of 14-15 August 1947 is called _____.

- | | |
|----------------------------|----------------------------|
| (A) Tryst with destiny | (B) Tried with destiny |
| (C) Tryst with honesty | (D) Tryst and Co-operation |
| (E) Question not attempted | |

14-15 अगस्त 1947 की मध्य रात्रि को पण्डित जवाहर लाल नेहरू द्वारा दिया गया प्रसिद्ध भाषण कहा जाता है -

- | | |
|--------------------------|----------------------------|
| (A) ट्रिस्ट विद डेस्टिनी | (B) ट्राइड विद डेस्टिनी |
| (C) ट्रिस्ट विद ऑनेस्टी | (D) ट्रिस्ट एण्ड को-ऑपरेशन |
| (E) अनुत्तरित प्रश्न | |

67 The cities that were divided into communal zones during the partition of India were-

- | | |
|--|-----------------------------------|
| (A) Lahore, Amritsar and Hyderabad | (B) Lahore, Amritsar and Calcutta |
| (C) Amritsar, Calcutta and Jammu & Kashmir | (D) Lahore, Bihar and Calcutta |
| (E) Question not attempted | |

भारत के विभाजन के दौरान सांप्रदायिक क्षेत्रों में बँट गए शहर थे:-

- | | |
|-------------------------------------|------------------------------|
| (A) लाहौर, अमृतसर और हैदराबाद | (B) लाहौर, अमृतसर और कलकत्ता |
| (C) अमृतसर, कलकत्ता और जम्मू कश्मीर | (D) लाहौर, बिहार और कलकत्ता |
| (E) अनुत्तरित प्रश्न | |

68 Which of the following is **not** a Kharif crop?

- (A) Maize (B) Pearl-Millet
(C) Gram (D) Rice
(E) Question not attempted

निम्नलिखित में से कौन एक खरीफ फसल **नहीं** है?

- (A) मक्का (B) बाजरा
(C) चना (D) धान
(E) अनुत्तरित प्रश्न

69 Fill in the blank with the most appropriate option :

रिक्त स्थान को सबसे उचित विकल्प से भरिए :

9, 28, 65, 126, _____

- (A) 204 (B) 194
(C) 206 (D) 217
(E) Question not attempted / अनुत्तरित प्रश्न

70 In the given question, choose the number letter group which is different from the others.

दिए गए प्रश्न में वह संख्या अक्षर समूह चुने जो अन्य से अलग है।

- (A) PH3 (B) XL2
(C) JB5 (D) OE3
(E) Question not attempted / अनुत्तरित प्रश्न

71 Select the related word from the given options :

Animals : Zoology :: Blood : ?

- (A) Hematology (B) Pathology
(C) Anatomy (D) Entomology
(E) Question not attempted

दिए गए विकल्पों में से संबंधित शब्द का चयन कीजिए:

जानवर : जंतुविज्ञान :: रक्त : ?

- (A) हिमेटोलॉजी (B) पेटोलॉजी
(C) एनाटॉमी (D) एनटोमोलॉजी
(E) अनुत्तरित प्रश्न

72 'कार्यालय ज्ञापन', निम्न में से किस शैली में लिखा जाता है?

- (A) उत्तम पुरुष (B) मध्यम पुरुष
(C) अन्य पुरुष (D) प्रथम पुरुष
(E) अनुत्तरित प्रश्न

Read the passage and answer the questions that follow: (Q. 73 to 76)

Show me a doctor who is not confused about nutrition and I will show you a doctor who has not kept up with research. Though nutritionists like to claim that basic nutritional advice does not change from year to year, the truth is that each week brings new studies, new research and new health warnings. Nor do all the studies agree with each other. Often they are contradictory and further confuse lay people.

Part of the problem is that many studies are financed by the food industry, which has a vested interest in the outcomes. And much of the so-called nutritional wisdom that has been propounded over the decades does not emerge out of pure science but out of the commercial interests of those passing on the advice.

The most famous example of this sort of thing may be the rule - rigidly advocated by some doctors over the years - that breakfast is the most important meal of the day. Skip breakfast, you will be told, and there will be damaging consequences for your health.

You can trace the roots of the advice to (surprise, surprise!) the American cereal industry and to such food faddists as the Kellogg family (owners of the eponymous cereal company).

It has always been a peculiarly Anglo-Saxon idea. People do eat breakfast all over the world but they do not necessarily attach such great importance to it. Nor do countries without a breakfast tradition see a sharp decline in public health. For instance, in France, breakfast may well consist of black coffee and a cigarette. The cigarette is not a good idea but the absence of solid food in the morning doesn't really hurt the French very much. Until the fast food industry spread all over France in the last decade or so, the French had much lower rates of heart disease than most English-speaking countries.

In the US, the bogus breakfast orthodoxy has led parents to feed children sugary cereals and stuff like pancakes with sugar syrup (often misleadingly packaged as maple syrup). There is finally a recognition that the breakfast-is-essential myth has actually contributed to a decline in American public health, the obesity epidemic and to tooth decay. Manufacturers of sugary cereals are quickly putting out new 'low-sugar' variations.

Some doctors still insist that the first meal of the day may be the most important. But the scientific evidence supports the view that if you avoid breakfast nothing terrible will happen to you.

73 Complete the sentence by choosing the correct option:

In reality the _____ benefits from advocating the need for taking breakfast.

- | | |
|----------------------------|-------------------|
| (A) general public | (B) French people |
| (C) children | (D) food Industry |
| (E) Question not attempted | |

74 According to the conclusion of the passage, breakfast -

- | | |
|--|--|
| (A) Is essential and not to be skipped. | (B) Skipping cannot harm you. |
| (C) Is the most significant meal of the day. | (D) Contributes to an individual's health. |
| (E) Question not attempted | |

75 In America, obesity and tooth decay have assumed the proportion of an epidemic because of the -

- | | |
|---|------------------------------------|
| (A) Vested interest of the general public | (B) Consumption of sugary cereals. |
| (C) Greek idea of breakfast. | (D) Consumption of savoury food |
| (E) Question not attempted | |

76 Bogus means _____.

- | | |
|----------------------------|---------------|
| (A) False | (B) Big |
| (C) True | (D) Confident |
| (E) Question not attempted | |

- 77 Which of the following three years were declared as Plan Holidays from five year plans in India?
 (A) 1957 to 1960 (B) 1961 to 1964
 (C) 1966 to 1969 (D) 1969 to 1972
 (E) Question not attempted
 भारत में पंचवर्षीय योजनाओं में से निम्न में से कौन से तीन वर्षों को योजना अवकाश घोषित किया गया था?
 (A) 1957 से 1960 (B) 1961 से 1964
 (C) 1966 से 1969 (D) 1969 से 1972
 (E) अनुत्तरित प्रश्न
- 78 Dr. Savita Ben Ambedkar inter-caste marriage help scheme was launched in the year-
 डॉ. सविता बेन अम्बेडकर अन्तर्जातीय विवाह सहायता योजना निम्नलिखित में से किस वर्ष में प्रारम्भ की गई थी?
 (A) 2006 (B) 2007
 (C) 2010 (D) 2012
 (E) Question not attempted / अनुत्तरित प्रश्न
- 79 Rajasthan handicraft policy has come into force on _____.
 (A) 17 September, 2022 (B) 18 September, 2022
 (C) 20 December, 2023 (D) 23 November, 2023
 (E) Question not attempted
 राजस्थान हथकरघा नीति _____ को लागू हुई थी।
 (A) 17 सितंबर, 2022 (B) 18 सितंबर, 2022
 (C) 20 दिसंबर, 2023 (D) 23 नवंबर, 2023
 (E) अनुत्तरित प्रश्न
- 80 Which of the following facility is **not** provided by the Rajasthan Sampark Portal?
 (A) Grievance Redressal (B) GIS integration and data analytics
 (C) Video-conferencing (D) Automatic Speech Recognition (ASR)
 (E) Question not attempted
 निम्नलिखित में से कौन सी सुविधा राजस्थान संपर्क पोर्टल द्वारा प्रदान **नहीं** की जाती है?
 (A) शिकायतों का निपटारा (B) जी. आई. एस. एकीकरण और आंकड़ों का विश्लेषण
 (C) वीडियो कॉन्फ्रेंसिंग (D) ऑटोमैटिक स्पीच रिकॉग्निशन (ASR)
 (E) अनुत्तरित प्रश्न
- 81 Which of the following two states have a joint plan under Mahi Project?
 (A) Rajasthan - Madhya Pradesh (B) Rajasthan - Punjab
 (C) Rajasthan - Gujarat (D) Rajasthan - Haryana
 (E) Question not attempted
 निम्नलिखित में से किन दो राज्यों में माही परियोजना एक संयुक्त योजना है?
 (A) राजस्थान - मध्य प्रदेश (B) राजस्थान - पंजाब
 (C) राजस्थान - गुजरात (D) राजस्थान - हरियाणा
 (E) अनुत्तरित प्रश्न
- 82 The characteristics of computer in which, computer can perform different types of tasks with the same ease is known as:
 (A) Speed (B) Versatility
 (C) Reliability (D) Diligence
 (E) Question not attempted
 कंप्यूटर की वह कौन-सी विशेषता है, जिसमें कंप्यूटर विभिन्न प्रकार के कार्यों का सुगमता से निष्पादन करता है?
 (A) गति (B) बहुमुखी
 (C) विश्वसनीयता (D) कर्मठता
 (E) अनुत्तरित प्रश्न

- 83 Which of the following is not a Constitutional Body?
 (A) Union Public Service Commission
 (B) Finance Commission
 (C) Election Commission
 (D) National Human Rights Commission
 (E) Question not attempted
 इनमें से कौन सा एक संवैधानिक निकाय नहीं है?
 (A) संघ लोक सेवा आयोग
 (B) वित्त आयोग
 (C) चुनाव आयोग
 (D) राष्ट्रीय मानवाधिकार आयोग
 (E) अनुत्तरित प्रश्न
- 84 Which of the following language is not included in the Eighth Schedule of the Constitution?
 (A) Nepali (B) Sindhi
 (C) English (D) Santhali
 (E) Question not attempted
 निम्नलिखित में से कौन सी भाषा संविधान की आठवीं अनुसूची में शामिल नहीं है?
 (A) नेपाली (B) सिंधी
 (C) अंग्रेजी (D) संथाली
 (E) अनुत्तरित प्रश्न
- 85 Choose the **most appropriate** option from below to complete the sentence:
 A formal letter concludes with a -
 (A) Subject (B) Salutation
 (C) Signature (D) Heading
 (E) Question not attempted
- 86 Fill in the blank by choosing the **most appropriate** option:
 He was indignant _____ being cheated by the smooth talk of the salesman.
 (A) with (B) in
 (C) of (D) at
 (E) Question not attempted
- 87 Change the direct speech into indirect speech by selecting the **most appropriate** option from below:
 He said, "I do not wish to see any of you, go away."
 (A) He said that he had not wished to see any of them and ordered them to go away.
 (B) He told that he did not wish to see any of them and ordered them to go away.
 (C) He said that he does not wish to see any of us and ordered us to go away.
 (D) He told that he did not wish to see us and ordered us to go away.
 (E) Question not attempted
- 88 Change the sentence into passive voice by choosing the **most appropriate** option:
 They feed the seals at the zoo twice a day.
 (A) The zoo feeds the seals twice a day. (B) They feed the seals twice a day at the zoo.
 (C) The seals are fed twice a day at the zoo. (D) Twice a day the seals are being fed at the zoo.
 (E) Question not attempted

- 89 The simple interest of a certain sum of rupees for 8 years at 7.5% annual rate is ₹ 7500. What is the simple interest on same sum for 8 years, if the rate of interest is increased by 2.5%?

यदि 7.5% वार्षिक ब्याज की दर से 8 वर्षों में एक राशि पर ₹ 7,500 साधारण ब्याज बनता है। यदि उसी धनराशि पर ब्याज 2.5% बढ़ा दिया जाए तब 8 वर्षों में साधारण ब्याज क्या होगा?

- (A) ₹ 20,000 (B) ₹ 12,500
(C) ₹ 10,000 (D) ₹ 12,000
(E) Question not attempted / अनुत्तरित प्रश्न

- 90 जब एक ही स्वर के ह्रस्व या दीर्घ रूप साथ-साथ आएँ तो दोनों स्वरों के स्थान पर कौन-सा स्वर हो जाता है?

- (A) ह्रस्व स्वर (B) दीर्घ स्वर
(C) अर्द्ध स्वर (D) पूर्ण स्वर
(E) अनुत्तरित प्रश्न

- 91 Geostationary satellites are positioned at _____ km upward distance from earth surface.

भूस्थिर उपग्रहों का स्थापन पृथ्वी तल से _____ किमी ऊपर की दूरी पर किया जाता है।

- (A) 26000 (B) 36000
(C) 55690 (D) 45990
(E) Question not attempted / अनुत्तरित प्रश्न

- 92 Concentrated nitric acid (aq) reacts with copper to give

- (A) Copper nitrate and hydrogen gas (B) Copper nitrate, nitrogen monoxide and water
(C) Copper nitrate, nitrogen dioxide and water (D) Copper oxide and dinitrogen oxide
(E) Question not attempted

सान्द्र नाइट्रिक एसिड (aq) तांबे (कॉपर) से अभिक्रिया करके देता है-

- (A) कॉपर नाइट्रेट एवं हाइड्रोजन गैस (B) कॉपर नाइट्रेट, नाइट्रोजन मोनोऑक्साइड एवं पानी
(C) कॉपर नाइट्रेट, नाइट्रोजन डाइऑक्साइड एवं पानी (D) कॉपर ऑक्साइड एवं डाइनाइट्रोजन ऑक्साइड
(E) अनुत्तरित प्रश्न

- 93 Colour blind person is unable to discriminate between :

- (A) Red and yellow colour (B) Blue and red colour
(C) Red and green colour (D) Blue and green colour
(E) Question not attempted

वर्णान्ध (कलर ब्लाइंड) व्यक्ति निम्न रंगों के मध्य भेद करने में असमर्थ रहता है :

- (A) लाल और पीला रंग (B) नीला और लाल रंग
(C) लाल और हरा रंग (D) नीला और हरा रंग
(E) अनुत्तरित प्रश्न

- 94 Select the option that is related to the third letter cluster in the same way as the second letter cluster is related to the first letter cluster.

निम्न में से उस विकल्प का चयन कीजिए जो तृतीय अक्षर समूह से उसी प्रकार संबंधित है जिस प्रकार द्वितीय अक्षर समूह प्रथम अक्षर समूह से संबंधित है।

WOUNDS : DNOSUW :: ALMIGHTY : ?

- (A) AIGHTYLM (B) AIGHLMTY
(C) AGHILMTY (D) GILHMATY
(E) Question not attempted / अनुत्तरित प्रश्न

95 How many numbers from 11 to 70 are there which are exactly divisible by 7 but not by 3?

- (A) Nine (B) Five
(C) Seven (D) Six
(E) Question not attempted

11 से 70 में कुल कितनी संख्याएँ हैं जो 7 से पूर्णतया भाज्य हैं परन्तु 3 से अभाज्य हैं?

- (A) नौ (B) पाँच
(C) सात (D) छह
(E) अनुत्तरित प्रश्न

96 On increasing the numerator of a fraction by 15% and decreasing its denominator by 8%, the fraction becomes $\frac{15}{16}$, the original fraction is:

यदि एक भिन्न के अंश को 15% बढ़ा दिया जाए और इसके हर को 8% घटा दिया जाए तो भिन्न का मान $\frac{15}{16}$ हो जाता है। मूल भिन्न ज्ञात कीजिए -

- (A) $\frac{5}{4}$ (B) $\frac{3}{4}$
(C) $\frac{6}{5}$ (D) $\frac{7}{4}$
(E) Question not attempted / अनुत्तरित प्रश्न

97 Amit, Sumit and Vinay divide an amount of ₹ 2800, amongst themselves in the ratio of 5 : 6 : 3 respectively. If an amount of ₹ 200 is added to the share of each, what will be the new ratio of their shares of the amount?

अमित, सुमित और विनय ₹ 2800 की धनराशि को 5 : 6 : 3 के अनुपात में विभाजित कर लेते हैं। यदि प्रत्येक के हिस्से में ₹ 200 जोड़ दिए जाएं तो राशि में उनके हिस्सों का नया अनुपात क्या होगा?

- (A) 6 : 9 : 4 (B) 6 : 7 : 4
(C) 7 : 8 : 5 (D) 4 : 5 : 2
(E) Question not attempted / अनुत्तरित प्रश्न

98 The average of 11 observations is 50. If the average of first six observations is 40 and the average of last six observations is 55, then the sixth observation is:

11 अवलोकनों का औसत 50 है। यदि पहले छह अवलोकनों का औसत 40 है, और अंतिम छह अवलोकनों का औसत 55 है, तो छठा अवलोकन है:

- (A) 30 (B) 40
(C) 20 (D) 35
(E) Question not attempted / अनुत्तरित प्रश्न

99 Zinc reacts with dilute nitric acid (aq) to give

निम्नलिखित प्रतिफल के लिए जस्ता तनु नाइट्रिक अम्ल (aq) से प्रतिक्रिया देता है

- (A) $\text{Zn}(\text{NO}_3)_2 + \text{H}_2\text{O} + \text{N}_2\text{O}$ (B) $\text{Zn}(\text{NO}_3)_2 + \text{H}_2$
(C) $\text{Zn}(\text{NO}_3)_2 + \text{H}_2\text{O} + \text{NO}_2$ (D) $\text{Zn}(\text{NO}_3)_2 + \text{NO} + \text{H}_2\text{O}$
(E) Question not attempted / अनुत्तरित प्रश्न

100 Which of the following is **not** a part of chromosome?

- (A) Satellite (B) F₁ particle
(C) Centromere (D) Chromatid
(E) Question not attempted

क्रोमोसोम (गुणसूत्र) का निम्नलिखित में से कौन सा एक हिस्सा (अंश) **नहीं** है?

- (A) सैटेलाइट (B) एफ₁ पार्टिकल
(C) सेंट्रोमियर (D) क्रोमेटिड
(E) अनुत्तरित प्रश्न

101 Nathu La Pass is situated in which State / UT of India?

- (A) Meghalaya (B) Jammu and Kashmir
(C) Sikkim (D) Arunachal Pradesh
(E) Question not attempted

नाथुला पास (दर्रा) भारत के किस राज्य / केन्द्रशासित प्रदेश में स्थित है?

- (A) मेघालय (B) जम्मू और कश्मीर
(C) सिक्किम (D) अरुणाचल प्रदेश
(E) अनुत्तरित प्रश्न

102 Who is the head of the Indian Audit and Accounts Department?

- (A) Finance Minister (B) Comptroller and Auditor General of India
(C) Prime Minister (D) Attorney General of India
(E) Question not attempted

भारतीय लेखा परीक्षा और लेखा विभाग के प्रमुख कौन हैं?

- (A) वित्त मंत्री (B) भारत के नियंत्रक एवं महालेखापरीक्षक
(C) प्रधानमंत्री (D) भारत के महान्यायवादी (अटॉर्नी जनरल)
(E) अनुत्तरित प्रश्न

103 Which of the following is **not** a constitutional post?

- (A) Governor (B) The Chief Justice
(C) RBI Governor (D) Speaker
(E) Question not attempted

निम्नलिखित में से कौन सा एक संवैधानिक पद **नहीं** है?

- (A) राज्यपाल (B) मुख्य न्यायाधीश
(C) आर बी आई गवर्नर (D) लोकसभा अध्यक्ष (स्पीकर)
(E) अनुत्तरित प्रश्न

104 Which of the following is the largest inhabited riverine island in the world ?

- (A) Majuli (B) Umananda
(C) Marajo (D) Doab
(E) Question not attempted

निम्न में से दुनिया का सबसे बड़ा बसा हुआ नदी द्वीप कौन सा है?

- (A) माजुली (B) उमानंदा
(C) मराजो (D) दोआब
(E) अनुत्तरित प्रश्न

105 Which of the following river is **not** a part of Indus River System ?

- (A) Chenab (B) Kosi
(C) Ravi (D) Satluj
(E) Question not attempted

निम्न में से कौन सी नदी सिंधु नदी प्रणाली का भाग **नहीं** है ?

- (A) चेनाब (B) कोसी
(C) रावी (D) सतलुज
(E) अनुत्तरित प्रश्न

106 Which of the following Lake is **not** a Saline water lake in Rajasthan?

- (A) Sambhar (B) Didwana
(C) Pichola (D) Pachpadra
(E) Question not attempted

निम्न में से राजस्थान की कौन सी झील खारे पानी की झील **नहीं** है?

- (A) सांभर (B) डीडवाना
(C) पिचोला (पिछौला) (D) पचपदरा
(E) अनुत्तरित प्रश्न

107 Identify the **most appropriate** idiom which can replace the underlined words:

Rohit has the reputation of complicating and confusing things when any issue is raised in the meeting.

- (A) as clear as mud (B) muddying the waters
(C) in complete shambles (D) got our wires crossed
(E) Question not attempted

108 Identify the word that can best substitute the given expression:

One who is too strong to be defeated.

- (A) Invulnerable (B) Indefatigable
(C) Insolvent (D) Invincible
(E) Question not attempted

109 Identify the **most appropriate** antonym of the given word from below:

APATHY

- (A) Stoicism (B) Stupor
(C) Aloofness (D) Fervor
(E) Question not attempted

110 Amar and Akbar start walking in opposite direction. Amar walked 24 km and Akbar walked 7 km. Then Amar turned left and walked 7 km and Akbar turned right and walked 24 km. How far is each of them from the starting point?

- (A) 27 km (B) 25 km
(C) 26 km (D) 31 km
(E) Question not attempted

अमर और अकबर ने विपरीत दिशा में चलना शुरू किया। अमर 24 कि. मी. चला और अकबर 7 कि. मी. चला। तत्पश्चात अमर बाँये मुड़ा और 7 कि. मी. चला और अकबर दाँये मुड़कर 24 कि. मी. चला। दोनों अपने मूल बिंदु से कितनी दूरी पर हैं?

- (A) 27 कि. मी. (B) 25 कि. मी.
(C) 26 कि. मी. (D) 31 कि. मी.
(E) अनुत्तरित प्रश्न

- 111 A, B, C, D, E and F are sitting in a row facing north. E and F are in the center, and A and B are at the ends. C is sitting on the immediate left of A. Who is sitting on the immediate right of B?

A, B, C, D, E और F एक पंक्ति में उत्तर की ओर मुख करके बैठे हैं। E और F केंद्र में हैं, और A और B छोर पर हैं। C, A के ठीक बाँये स्थान पर बैठा है। B के ठीक दाँये स्थान पर कौन बैठा है?

- (A) E (B) A
(C) F (D) D
(E) Question not attempted / अनुत्तरित प्रश्न

- 112 Which Indian Constitutional amendment raised the age of retirement of a High Court Judge from 60 to 62 years ?

- (A) 15th Constitutional Amendment (B) 16th Constitutional Amendment
(C) 17th Constitutional Amendment (D) 18th Constitutional Amendment
(E) Question not attempted

किस भारतीय संविधान संशोधन ने उच्च न्यायालय के न्यायाधीशों की सेवानिवृत्ति की आयु 60 वर्ष से बढ़ाकर 62 वर्ष कर दी?

- (A) 15वाँ संविधान संशोधन (B) 16वाँ संविधान संशोधन
(C) 17वाँ संविधान संशोधन (D) 18वाँ संविधान संशोधन
(E) अनुत्तरित प्रश्न

- 113 Match List-I with List-II.

List-I

- a. Goods and Service Tax
b. Delimitation Commission
c. Survey of India
d. Dept. of Atomic Energy

List-II

- I. Article 82
II. Prime Minister
III. Dept. of Science and Technology
IV. Article 246 A

सूची-I के साथ सूची-II का मिलान कीजिए।

सूची-I

- a. वस्तु एवं सेवा कर
b. परिसीमन आयोग
c. भारतीय सर्वेक्षण (सर्वे ऑफ इंडिया)
d. परमाणु ऊर्जा विभाग

सूची-II

- I. अनुच्छेद 82
II. प्रधानमंत्री
III. विज्ञान और प्रौद्योगिकी विभाग
IV. अनुच्छेद 246 A

Choose the **most appropriate** answer from the options given below:

नीचे दिए गए विकल्पों में से **सर्वाधिक उपयुक्त** उत्तर चुनें।

- (A) a - I, b - II, c - III, d - IV (B) a - IV, b - I, c - III, d - II
(C) a - IV, b - III, c - II, d - I (D) a - II, b - IV, c - I, d - III
(E) Question not attempted / अनुत्तरित प्रश्न

- 114 निम्नलिखित में से 'पित्रादेश' शब्द का सही संधि विच्छेद है-

- (A) पित्र + आदेश (B) पित्रा + देश
(C) पितृ + आदेश (D) पिता + आदेश
(E) अनुत्तरित प्रश्न

- 115 'चाल', शब्द किस संज्ञा का उदाहरण है?

- (A) समूहवाचक (B) व्यक्तिवाचक
(C) जातिवाचक (D) भाववाचक
(E) अनुत्तरित प्रश्न

- 116 रचना की दृष्टि से क्रिया के सामान्यतः कितने भेद होते हैं?

- (A) दो (B) तीन
(C) चार (D) पाँच
(E) अनुत्तरित प्रश्न

117 First Indian spacecraft which will carry 3 members and will orbit for 3 days in space is :

- (A) NISAR (B) Gaganyaan
(C) Spadex (D) Bhaskar 3
(E) Question not attempted

प्रथम भारतीय अन्तरिक्षयान जो 3 सदस्यों को ले जाएगा और वह अंतरिक्ष में 3 दिनों के लिए रहेगा :

- (A) एन आई एस ए आर (B) गगनयान
(C) स्पैडेक्स (D) भास्कर 3
(E) अनुत्तरित प्रश्न

118 Which of the following is not the allotropes of carbon?

- (A) Fullerene (B) Ethanol
(C) Graphite (D) Diamond
(E) Question not attempted

निम्नलिखित में से कौन-सा कार्बन का अपरूप (ऐलोट्रोप) नहीं है?

- (A) फुलेरीन (B) इथेनॉल
(C) ग्रेफाइट (D) डायमंड
(E) अनुत्तरित प्रश्न

119 Which of the following is responsible for the dark brown or reddish colour given by henna?

- (A) Luciferin (B) Melanin
(C) Lawsone (D) Hydroquinine
(E) Question not attempted

मेहंदी द्वारा गहरा भूरा अथवा थोड़ा लाल रंग देने हेतु निम्नलिखित में से कौन जिम्मेदार रहता है?

- (A) ल्यूसिफेरिन (B) मेलानिन
(C) लॉसोन (D) हाइड्रोक्विनाइन
(E) अनुत्तरित प्रश्न

120 Which of the following input device is used to input temperatures and moisture etc.?

- (A) Webcam (B) Scanners
(C) Joysticks (D) Sensors
(E) Question not attempted

निम्नलिखित में से कौन सा इनपुट उपकरण का उपयोग तापमान और आर्द्रता को फीड (इनपुट) करने के लिये किया जाता है ?

- (A) वेबकैम (B) स्कैनर
(C) जॉयस्टिक्स (D) सेन्सर
(E) अनुत्तरित प्रश्न

121 Cyber security is also called, "Security of Information Technology". It is used mainly to:

- (A) Connect different computers together
(B) Used to share the resources on internet
(C) Stop unauthorized access into various computers
(D) Used to send letters by post
(E) Question not attempted

साइबर सुरक्षा को, "सूचना प्रौद्योगिकी की सुरक्षा", भी कहा जाता है। इसका उपयोग निम्नलिखित कार्यों के लिए किया जाता है:

- (A) विभिन्न कंप्यूटरों को एक-दूसरे से जोड़ना
(B) इंटरनेट पर संसाधनों को आपस में बांटने में प्रयोग के लिए
(C) विभिन्न कंप्यूटरों के अनधिकृत उपागम को रोकने के लिए
(D) पत्रों को डाक द्वारा भेजने के लिए
(E) अनुत्तरित प्रश्न

- 122 In which year the Indian Space Research Organisation (ISRO) was set up?
निम्नलिखित में से किस वर्ष में इंडियन स्पेस रिसर्च ऑर्गेनाइजेशन (ISRO) की स्थापना की गई थी?
(A) 1962 (B) 1969
(C) 1972 (D) 1952
(E) Question not attempted / अनुत्तरित प्रश्न
- 123 SVAMITVA Scheme is associated with
(A) Water conservation in urban areas.
(B) Demarcation of inhabited land in rural areas.
(C) Property survey scheme in rural areas.
(D) Soil conservation in rural areas.
(E) Question not attempted
स्वामित्व योजना, किससे संबंधित है?
(A) शहरी इलाकों में जल संचयन
(B) ग्रामीण इलाकों में आबाद भूमि का सीमांकन
(C) ग्रामीण इलाकों में सम्पत्ति सर्वेक्षण योजना
(D) ग्रामीण इलाकों में मिट्टी का संरक्षण
(E) अनुत्तरित प्रश्न
- 124 National Panchayati Raj Day is celebrated on _____.
(A) 20 April (B) 22 April
(C) 24 April (D) 26 April
(E) Question not attempted
राष्ट्रीय पंचायती राज दिवस _____ को मनाया जाता है।
(A) 20 अप्रैल (B) 22 अप्रैल
(C) 24 अप्रैल (D) 26 अप्रैल
(E) अनुत्तरित प्रश्न
- 125 Choose the correct combination from below:
(A) IDBI - Short Term Loans (B) RBI - Long Term Loans
(C) SBI - Monetary Policy (D) RRB - Agricultural Finance
(E) Question not attempted
निम्नलिखित में से यथोचित संयोजन को चुनिए:
(A) आई. डी. बी. आई. - अल्पकालिक ऋण (B) आर. बी. आई. - दीर्घकालिक ऋण
(C) एस. बी. आई. - मौद्रिक नीति (D) आर. आर. बी. - कृषि वित्त
(E) अनुत्तरित प्रश्न
- 126 How many industries were reserved only for public sector before the deregulation of the Industrial Sector in 1991?
(Choose the most appropriate option from below)
1991 में, औद्योगिक क्षेत्र के विनियमन से पूर्व, केवल सार्वजनिक क्षेत्र के लिए कितने उद्योग आरक्षित थे? (निम्न में से सबसे उपयुक्त विकल्प चुनें)
(A) 20 (B) 14
(C) 24 (D) 17
(E) Question not attempted / अनुत्तरित प्रश्न
- 127 The actual growth rate achieved in the 11th Five Year Plan was: (Choose the most appropriate option from below)
11वीं पंचवर्षीय योजना में कितनी वास्तविक वृद्धि दर प्राप्त की गई? (निम्न में से सबसे उपयुक्त विकल्प चुनें)
(A) 9% (B) 8%
(C) 7% (D) 10%
(E) Question not attempted / अनुत्तरित प्रश्न

- 128 GST Council is a Constitutional body established under the following article:
वस्तु एवं सेवा कर परिषद् एक संवैधानिक निकाय है, जिसकी स्थापना निम्नलिखित में से किस अनुच्छेद के अन्तर्गत की गई है?
- (A) 279 A (B) 184 (1)
(C) 247 (D) 122
(E) Question not attempted / अनुत्तरित प्रश्न

- 129 Khadi Kamgar Arthik Protsahan Yojana has been implemented in the Rajasthan state from-
(A) 13 July, 2022 (B) 14 July, 2022
(C) 15 July, 2023 (D) 16 July, 2024
(E) Question not attempted
- राजस्थान राज्य में खादी कामगार आर्थिक प्रोत्साहन योजना कब से कार्यान्वित की गई?
- (A) 13 जुलाई, 2022 (B) 14 जुलाई, 2022
(C) 15 जुलाई, 2023 (D) 16 जुलाई, 2024
(E) अनुत्तरित प्रश्न

- 130 Match List-I with List-II :

List-I Scheme	List-II Launched
a. Shudh ke liye youdh	I. 26 October, 2020
b. Nirogi Rajasthan Abhiyan	II. 18 December, 2019
c. Indira Rasoi Yojana	III. 20 August, 2020
d. Indira Gandhi urban credit card yojana	IV. 24 February, 2021

सूची-I के साथ सूची-II का मिलान कीजिए :

सूची-I योजना	सूची-II क्रियान्वयन
a. शुद्ध के लिए युद्ध	I. 26 अक्टूबर, 2020
b. निरोगी राजस्थान अभियान	II. 18 दिसंबर, 2019
c. इंदिरा रसोई योजना	III. 20 अगस्त, 2020
d. इंदिरा गाँधी शहरी क्रेडिट कार्ड योजना	IV. 24 फरवरी, 2021

Choose the **most appropriate** answer from the options given below:

नीचे दिए गए विकल्पों में से **सर्वाधिक उपयुक्त** उत्तर चुनें।

- (A) a - I, b - II, c - III, d - IV (B) a - II, b - III, c - IV, d - I
(C) a - III, b - IV, c - I, d - II (D) a - IV, b - III, c - II, d - I
(E) Question not attempted / अनुत्तरित प्रश्न

- 131 Indira Gandhi Nahar Project (IGNP) is better known as the life line of - (Choose the most appropriate option from below)

- (A) Western Rajasthan (B) Eastern Rajasthan
(C) Northern Rajasthan (D) Southern Rajasthan
(E) Question not attempted

इन्दिरा गाँधी नहर परियोजना (आई. जी. एन. पी.) को निम्नलिखित में से किसकी बेहतर, जीवन रेखा माना जाता है? (निम्न में से सबसे उपयुक्त विकल्प चुनें)

- (A) पश्चिमी राजस्थान (B) पूर्वी राजस्थान
(C) उत्तरी राजस्थान (D) दक्षिणी राजस्थान
(E) अनुत्तरित प्रश्न

- 132 What is the food pattern ratio of GOZ and GOR in National Food Security Mission (NFSM) on wheat and pulses launched in Rajasthan in the year 2007-2008?

राजस्थान में वर्ष 2007-2008 में प्रारम्भ किए गए गेहूँ और दालों के राष्ट्रीय खाद्य सुरक्षा मिशन (एन. एफ. एस. एम.) के लिए GOZ एवं GOR के खाने के पैटर्न का अनुपात क्या है?

- (A) 60 : 40 (B) 50 : 50
(C) 70 : 30 (D) 80 : 20
(E) Question not attempted / अनुत्तरित प्रश्न

- 133 Critical Minerals Summit 2024, was held in which of the following city / U.T.?
 (A) Mumbai (B) New Delhi
 (C) Kolkata (D) Chennai
 (E) Question not attempted
 क्रिटिकल मिनरल्स सम्मेलन (समिट) 2024, किस शहर / केंद्रशासित प्रदेश में आयोजित किया गया?
 (A) मुंबई (B) नई दिल्ली
 (C) कोलकाता (D) चेन्नई
 (E) अनुत्तरित प्रश्न
- 134 Poona Pact 1932, was associated with which of the following Leaders?
 (A) Mahatma Gandhi and Muhammad Ali Jinnah (B) Dr. Bhim Rao Ambedkar and Muhammad Ali Jinnah
 (C) Mahatma Gandhi and Pt. Jawaharlal Nehru (D) Mahatma Gandhi and Dr. Bhim Rao Ambedkar
 (E) Question not attempted
 पूना समझौता, 1932 निम्नलिखित में से किन नेताओं से संबंधित था?
 (A) महात्मा गांधी और मुहम्मद अली जिन्ना (B) डॉ. भीमराव अम्बेडकर एवं मुहम्मद अली जिन्ना
 (C) महात्मा गांधी एवं पंडित जवाहरलाल नेहरू (D) महात्मा गांधी एवं डॉ. भीमराव अम्बेडकर
 (E) अनुत्तरित प्रश्न
- 135 Who established Depressed Classes Association?
 (A) Mahatma Gandhi (B) Dr. Bhim Rao Ambedkar
 (C) Jawaharlal Nehru (D) Muhammad Ali Jinnah
 (E) Question not attempted
 दलित वर्ग संगठन, किसने स्थापित किया?
 (A) महात्मा गांधी (B) डॉ. भीमराव अम्बेडकर
 (C) जवाहरलाल नेहरू (D) मुहम्मद अली जिन्ना
 (E) अनुत्तरित प्रश्न
- 136 Choose the **most appropriate** option to complete the given sentence.
 They withheld his results. He _____ the proof of his age.
 (A) has not furnished (B) had not furnished
 (C) didn't furnish (D) doesn't furnish
 (E) Question not attempted
- 137 Choose the **most appropriate** option to complete the given sentence:
 There was _____ knock on _____ door. I opened it and found _____ small dark man in blue overcoat and _____ woollen cap.
 (A) a, the, a, a (B) the, a, _____, the
 (C) an, the, an, a (D) a, a, the, the
 (E) Question not attempted
- 138 Identify the **most appropriate** English translation of the given sentence:
 वह थोड़ी ताजा हवा खाने के लिए बाहर आ गया।
 (A) He came out to eat a little fresh air. (B) He came outside for a breath of fresh air.
 (C) He gulped some fresh air outside. (D) Fresh air can be had only outside.
 (E) Question not attempted
- 139 निम्नलिखित में से कौन-सी ध्वनियाँ अघोष हैं?
 a. छ b. ज
 c. त d. न
 e. प
 नीचे दिए गए विकल्पों में से **सर्वाधिक उपयुक्त** उत्तर का चयन कीजिए:
 (A) केवल b, c और d (B) केवल a, c और e
 (C) केवल a, d और e (D) केवल b, d और e
 (E) अनुत्तरित प्रश्न

140 'Deputation' के लिए हिंदी में समानार्थक शब्द है-

- (A) प्रतिनियुक्ति (B) नियुक्ति
(C) प्रतिभूति (D) निवृत्ति
(E) अनुत्तरित प्रश्न

141 Arrange the following words according to dictionary arrangement:

निम्नलिखित शब्दों को शब्दावली (डिक्शनरी) आयोजन के अनुसार व्यवस्थित कीजिए:

- a. Except b. Expect
c. Excess d. Exit

Choose the **most appropriate** answer from the options given below:

नीचे दिए गए विकल्पों में से सर्वाधिक उपयुक्त उत्तर चुनें।

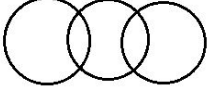

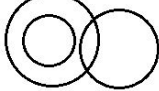
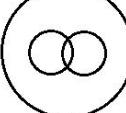
- (A) b, d, a, c (B) b, a, d, c
(C) c, d, a, b (D) a, c, d, b
(E) Question not attempted / अनुत्तरित प्रश्न

142 Choose the venn diagram which best illustrates the three given classes:

वह वेन आरेख चुनें जो दिए गए तीन वर्गों को सर्वोत्तम रूप से दर्शाता है:

Flowers, Red, Fruits

फूल, लाल, फल

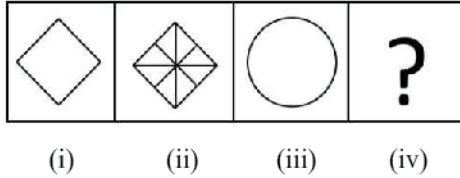
- (A)  (B) 
(C)  (D) 

(E) Question not attempted / अनुत्तरित प्रश्न

143 There is a definite relationship between figures (i) and (ii). Establish a similar relationship between figures (iii) and (iv) by selecting a suitable figure from the options. So select a figure from the options that would replace question mark (?)

आकृति (i) और (ii) के बीच एक निश्चित संबंध है। विकल्पों में से उपयुक्त आकृति का चयन करके आकृति (iii) और (iv) के बीच समान संबंध स्थापित करें। इसलिए विकल्पों में से उस आकृति का चयन करें जो (?) प्रश्नचिह्न का स्थान ले।

Problem Figure / समस्या आकृति



- (A)  (B) 
(C)  (D) 

(E) Question not attempted / अनुत्तरित प्रश्न

144 National Rural Livelihood Mission (NRLM) is implemented to eradicate poverty for _____ across the Rajasthan state during the financial year 2022-2023.

- (A) rural poor (B) urban poor
(C) tribal poor (D) slum poor
(E) Question not attempted

वित्तीय वर्ष 2022-23 के दौरान संपूर्ण राजस्थान राज्य में राष्ट्रीय ग्रामीण आजीविका मिशन (एन. आर. एल. एम.) का क्रियान्वयन _____ की गरीबी उन्मूलन के लिए किया गया है।

- (A) ग्रामीण निर्धन (B) शहरी निर्धन
(C) जनजातीय निर्धन (D) झुग्गी झोपड़ी निर्धन
(E) अनुत्तरित प्रश्न

145 Cooperative movement in Rajasthan region was started in the year _____. (Choose the most appropriate option from below)

राजस्थान क्षेत्र में सहकारी आंदोलन की शुरुआत _____ वर्ष में हुई। (निम्न में से सबसे उपयुक्त विकल्प चुनें)

- (A) 1904 (B) 1910
(C) 1912 (D) 1914
(E) Question not attempted

146 Given below are two statements:

Statement (I): Sodium metal is stored in kerosene oil because it is highly reactive.

Statement (II): Sodium metal reacts vigorously with nitrogen.

In light of the above statements, choose the **most appropriate** answer from the options given below.

- (A) Both Statement (I) and Statement (II) are correct.
(B) Both Statement (I) and Statement (II) are incorrect.
(C) Statement (I) is correct but Statement (II) is incorrect.
(D) Statement (I) is incorrect but Statement (II) is correct.
(E) Question not attempted

नीचे दो कथन दिए गए हैं:

कथन (I): सोडियम धातु को मिट्टी के तेल में संग्रहित किया जाता है क्योंकि यह अत्यधिक प्रतिक्रियात्मक होता है।

कथन (II): सोडियम धातु नाइट्रोजन से प्रबलता से प्रतिक्रिया करता है।

उपरोक्त कथनों के आलोक में, नीचे दिए गए विकल्पों में से **सबसे उपयुक्त** उत्तर चुनें।

- (A) कथन (I) और कथन (II) दोनों सही हैं। (B) कथन (I) और कथन (II) दोनों ही गलत हैं।
(C) कथन (I) सही है लेकिन कथन (II) गलत है। (D) कथन (I) गलत है लेकिन कथन (II) सही है।
(E) अनुत्तरित प्रश्न

- 147 At the time of India's Independence, how many Riyasat were there in present day Rajasthan (Rajputana Region)?
(Choose the most appropriate option from below)

भारत की स्वतंत्रता प्राप्ति के समय, आज के राजस्थान (राजपूताना क्षेत्र) में कितनी रियासत थीं ? (निम्न में से सबसे उपयुक्त विकल्प चुनें)

- (A) 19 (B) 21
(C) 25 (D) 29
(E) Question not attempted / अनुत्तरित प्रश्न

- 148 'Indian National Army' (INA) was created by- (Choose the most appropriate option from below)

- (A) Lala Lajpat Rai (B) Bhagat Singh
(C) Bal Gangadhar Tilak (D) Netaji Subhash Chandra Bose
(E) Question not attempted

“इण्डियन नेशनल आर्मी” (आई. एन. ए.) का गठन किसके द्वारा किया गया था? (निम्न में से सबसे उपयुक्त विकल्प चुनें)

- (A) लाला लाजपत राय (B) भगत सिंह
(C) बाल गंगाधर तिलक (D) नेताजी सुभाष चंद्र बोस
(E) अनुत्तरित प्रश्न

- 149 Name the person who went on a fast in 1952 demanding a separate State of Andhra and died during the fast.

- (A) Potti Sriramulu (B) Sriram Gandhi
(C) Ramlal Gaya (D) B. P. Sarabhai
(E) Question not attempted

उस व्यक्ति का नाम बताइए, जो 1952 में पृथक आंध्र राज्य की स्थापना के लिए अनशन पर बैठ गये थे, और अनशन के दौरान ही उनकी मृत्यु हो गयी थी।

- (A) पोद्दी श्रीरामुलु (B) श्रीराम गाँधी
(C) रामलाल गया (D) बी. पी. साराभाई
(E) अनुत्तरित प्रश्न

- 150 Given below are two statements:

Statement (I): In the context of the revolt of 1857, the term revolt refers primarily to the uprising of the civilian population.

Statement (II): Mutiny was a collective disobedience of rules and regulations within the armed forces.

In light of the above statements, choose the **most appropriate** answer from the options given below.

- (A) Both Statement (I) and Statement (II) are correct.
(B) Both Statement (I) and Statement (II) are incorrect.
(C) Statement (I) is correct but Statement (II) is incorrect.
(D) Statement (I) is incorrect but Statement (II) is correct.
(E) Question not attempted

नीचे दो कथन दिए गए हैं:

कथन (I): 1857 के विद्रोह (म्युतिनी) के संदर्भ में विद्रोह शब्द का तात्पर्य मुख्यतः नागरिक आबादी की बगावत से है।

कथन (II): विद्रोह (म्युतिनी) सशस्त्र बलों के भीतर नियमों और विनियमों की सामूहिक अवज्ञा थी।

उपरोक्त कथनों के आलोक में, नीचे दिए गए विकल्पों में से **सबसे उपयुक्त** उत्तर चुनें।

- (A) कथन (I) और कथन (II) दोनों सही हैं। (B) कथन (I) और कथन (II) दोनों ही गलत हैं।
(C) कथन (I) सही है लेकिन कथन (II) गलत है। (D) कथन (I) गलत है लेकिन कथन (II) सही है।
(E) अनुत्तरित प्रश्न

SPACE FOR ROUGH WORK / रफ कार्य के लिए स्थान

उत्तर पत्रक में दो प्रतियाँ हैं - मूल प्रति और द्वितीय प्रति, परीक्षा समाप्ति पर परीक्षा कक्ष छोड़ने से पूर्व परीक्षार्थी उत्तर पत्रक की दोनों प्रतियाँ वीक्षक को सौंपेंगे, परीक्षार्थी स्वयं द्वितीय प्रति को अलग नहीं करें। वीक्षक द्वारा उत्तर पत्रक की मूल प्रति को अपने पास जमा कर, द्वितीय प्रति को मूल प्रति से कट लाइन से मोड़ कर सावधानी पूर्वक अलग कर परीक्षार्थी को सौंपेंगे। परीक्षार्थी द्वितीय प्रति को अपने साथ ले जायेंगे।