

DSSSB Asst Suprt.

**Previous Year Paper
20 Jul, 2024 Shift 3**



Adda247

Test Prime

ALL EXAMS, ONE SUBSCRIPTION



80,000+
Mock Tests



**Personalised
Report Card**



**Unlimited
Re-Attempt**



600+
Exam Covered



20,000+ Previous
Year Papers



500%
Refund



ATTEMPT FREE MOCK NOW



GOVT. OF NCT OF DELHI
Delhi Subordinate Services Selection Board
FC-18, Institutional Area, Karkardooma, Delhi – 110092.
www.dsssb.delhigovt.nic.in

Participant ID	
Participant Name	
Test Center Name	iON Digital Zone iDZ 2 Sector 62
Test Date	20/07/2024
Test Time	4:30 PM - 6:30 PM
Subject	Assistant Superintendent

Section : General intelligence and Reasoning Ability 1

Q.1 In a certain code language, 'ALUMNI' is written as 'FLMRJA'. What is the code for 'BACKED' in that code language?

- Ans
- ☒ 1. ACZKYB
 - ☒ 2. ACKAYB
 - ☒ 3. ABKZYB
 - ☒ 4. ACKZYB

Question ID : 630680938126
Option 1 ID : 6306803676983
Option 2 ID : 6306803676984
Option 3 ID : 6306803676981
Option 4 ID : 6306803676982

Q.2 In a certain code language, 'PTYZOAJ' is written as 'YTPZJAO'. What is the code for 'BWXDJMN' in that code language?

- Ans
- ☒ 1. XWBNMJD
 - ☒ 2. XWBDNJM
 - ☒ 3. XBWDNMJ
 - ☒ 4. XWBDNMJ

Question ID : 630680937925
Option 1 ID : 6306803676177
Option 2 ID : 6306803676179
Option 3 ID : 6306803676178
Option 4 ID : 6306803676180

Q.3 A is the wife of B. B is the brother of C. C is the sister of D. D is the father of E. How is C related to A?

- Ans
1. Brother's wife
2. Sister's husband
3. Husband's sister
4. Wife' sister

Question ID : 630680937971

Option 1 ID : 6306803676363

Option 2 ID : 6306803676362

Option 3 ID : 6306803676364

Option 4 ID : 6306803676361

Q.4 In a certain code language, 'GIVEN' is coded as 'ILXHP', 'HARD' is coded as 'JDTG'. How will 'TARGET' be coded in that code language?

- Ans
1. VDSJGW
2. VCTJGW
3. VDTJGW
4. VDTKGW

Question ID : 630680938005

Option 1 ID : 6306803676499

Option 2 ID : 6306803676497

Option 3 ID : 6306803676498

Option 4 ID : 6306803676500

Q.5 If '−' means '÷', '+' means '×', '÷' means '−' and '×' means '+', then which of the following equation is not correct?

- Ans
1. $48 \div 5 + 8 \times 10 - 2 = 15$
2. $43 \times 7 \div 10 - 5 + 20 = 10$
3. $15 \div 6 \times 4 - 2 + 9 = 27$
4. $9 - 3 + 7 \div 4 \times 8 = 25$

Question ID : 630680937991

Option 1 ID : 6306803676441

Option 2 ID : 6306803676442

Option 3 ID : 6306803676444

Option 4 ID : 6306803676443

Q.6 Select the option in which the numbers shares the same relationship in set as that shared by the numbers in the given set. (NOTE: Operations should be performed on the whole numbers, without breaking down the numbers into its constituent digits. E.g.13 – Operations on 13 such as adding /subtracting /multiplying etc. to 13 can be performed. Breaking down 13 into 1 and 3 and then performing mathematical operations on 1 and 3 is not allowed)

(82, 87, 112)
(114, 119, 144)

- Ans
- ✗ 1. (84, 89, 124)
 - ✗ 2. (189, 194, 209)
 - ✗ 3. (129, 134, 139)
 - ✓ 4. (512, 517, 542)

Question ID : 630680938117
Option 1 ID : 6306803676948
Option 2 ID : 6306803676946
Option 3 ID : 6306803676945
Option 4 ID : 6306803676947

Q.7 'S – T' means 'S' is the wife of 'T', 'S + T' means 'S' is the daughter of 'T' and 'S ÷ T' means 'S' is the son of 'T'. If F – G ÷ H + J – K then How is J related to G?

- Ans
- ✗ 1. Mother's father
 - ✗ 2. Mother
 - ✗ 3. Mother's brother
 - ✓ 4. Mother's mother

Question ID : 630680937933
Option 1 ID : 6306803676210
Option 2 ID : 6306803676212
Option 3 ID : 6306803676209
Option 4 ID : 6306803676211

Q.8 Select that missing pair (Fifth letter cluster : Sixth letter cluster) which is related in the same way as the first letter cluster is related to the second letter cluster and third letter cluster is related to fourth letter cluster.

RSV : SUY :: DFH : EHK :: ?

- Ans
- ✓ 1. RXT : SZW
 - ✗ 2. BIK : YJI
 - ✗ 3. GFO : IHR
 - ✗ 4. CFH : FHI

Question ID : 630680937936
Option 1 ID : 6306803676222
Option 2 ID : 6306803676223
Option 3 ID : 6306803676221
Option 4 ID : 6306803676224

Q.9 Select that missing pair (Fifth letter cluster : Sixth letter cluster) which is related in the same way as the first letter cluster is related to the second letter cluster and third letter cluster is related to fourth letter cluster.

HJK : GIJ :: FDM : ECL :: ?

- Ans ☒ 1. BRC : CSR
☒ 2. LKS : KJR
☒ 3. DMH : COG
☒ 4. MNP : KLN

Question ID : 630680938017
 Option 1 ID : 6306803676546
 Option 2 ID : 6306803676548
 Option 3 ID : 6306803676545
 Option 4 ID : 6306803676547

Q.10 Select the option that is related to the third number cluster in the same way as the second number cluster is related to the first number cluster and sixth number cluster is related to fifth number cluster. (NOTE: Operations should be performed on the whole numbers, without breaking down the numbers into its constituent digits. E.g.13 – Operations on 13 such as adding /subtracting /multiplying etc. to 13 can be performed. Breaking down 13 into 1 and 3 and then performing mathematical operations on 1 and 3 is not allowed)

78 : 156 :: 55 : ? :: 93 : 186

- Ans ☒ 1. 109
☒ 2. 110
☒ 3. 107
☒ 4. 108

Question ID : 630680938036
 Option 1 ID : 6306803676622
 Option 2 ID : 6306803676621
 Option 3 ID : 6306803676624
 Option 4 ID : 6306803676623

Q.11 In the following question, select the missing number from the given series.

153, 152, 148, 139, 123, ?

- Ans ☒ 1. 93
☒ 2. 98
☒ 3. 92
☒ 4. 99

Question ID : 630680938234
 Option 1 ID : 6306803677413
 Option 2 ID : 6306803677415
 Option 3 ID : 6306803677416
 Option 4 ID : 6306803677414

Q.12 Arrange the given words in the sequence in which they occur in the dictionary.

- 1. Magnet
- 2. Magic
- 3. Magical
- 4. Magnify
- 5. Magneto

- Ans
- ☐ 1. 3-2-1-4-5
 - ☐ 2. 2-3-1-4-5
 - ☐ 3. 3-2-1-5-4
 - ☒ 4. 2-3-1-5-4

Question ID : 630680938209
Option 1 ID : 6306803677314
Option 2 ID : 6306803677313
Option 3 ID : 6306803677316
Option 4 ID : 6306803677315

Q.13 Select that missing pair (Fifth letter cluster : Sixth letter cluster) which is related in the same way as the first letter cluster is related to the second letter cluster and third letter cluster is related to fourth letter cluster.

KMO : IKM :: DFG: BDE :: ?

- Ans
- ☐ 1. BHI : ZKG
 - ☒ 2. MFK : KDI
 - ☐ 3. WRS : ZAD
 - ☐ 4. PRU : NSS

Question ID : 630680938218
Option 1 ID : 6306803677351
Option 2 ID : 6306803677350
Option 3 ID : 6306803677352
Option 4 ID : 6306803677349

Q.14 Consider the five three digit numbers given below and the answer the questions based on it.

(Left) 891 512 341 529 875 (Right)

What will be the sum of unit's digit of all the given three digit numbers?

- Ans
- ☒ 1. 18
 - ☐ 2. 21
 - ☐ 3. 17
 - ☐ 4. 20

Question ID : 630680937970
Option 1 ID : 6306803676358
Option 2 ID : 6306803676360
Option 3 ID : 6306803676359
Option 4 ID : 6306803676357

Q.15 Consider the five three letter words given below and the answer the questions based on it.

(Left) CMP GAT WIN ROG ACP (Right)

If all the letters of each word are replaced by the next letter as per the English alphabetical order, then in how many newly formed words, there will be only two vowels?

- Ans ☒ 1. 3
☒ 2. 0
☒ 3. 1
☒ 4. 4

Question ID : 630680938009
 Option 1 ID : 6306803676513
 Option 2 ID : 6306803676516
 Option 3 ID : 6306803676514
 Option 4 ID : 6306803676515

Q.16 After arranging the given words according to dictionary order, which word will come at 'Fifth' position?

1. Worn
2. Word
3. Wore
4. Work
5. World

- Ans ☒ 1. Wore
☒ 2. World
☒ 3. Work
☒ 4. Worn

Question ID : 630680938207
 Option 1 ID : 6306803677307
 Option 2 ID : 6306803677306
 Option 3 ID : 6306803677308
 Option 4 ID : 6306803677305

Q.17 Select the option in which the numbers shares the same relationship in set as that shared by the numbers in the given set. (NOTE: Operations should be performed on the whole numbers, without breaking down the numbers into its constituent digits. E.g.13 – Operations on 13 such as adding /subtracting /multiplying etc. to 13 can be performed. Breaking down 13 into 1 and 3 and then performing mathematical operations on 1 and 3 is not allowed)

- (12, 5, 49)
 (42, 27, 225)

- Ans ☒ 1. (45, 16, 961)
☒ 2. (18, 19, 121)
☒ 3. (12, 14, 144)
☒ 4. (48, 44, 16)

Question ID : 630680937997
 Option 1 ID : 6306803676468
 Option 2 ID : 6306803676465
 Option 3 ID : 6306803676466
 Option 4 ID : 6306803676467

Q.18 In the following question, select the missing number from the given series.

67, 69, 73, 79, 87, ?

- Ans
- ☒ 1. 96
 - ☒ 2. 93
 - ☒ 3. 99
 - ☒ 4. 97

Question ID : 630680938233
Option 1 ID : 6306803677412
Option 2 ID : 6306803677411
Option 3 ID : 6306803677409
Option 4 ID : 6306803677410

Q.19 By interchanging the given two signs which of the following equation will be NOT correct?
× and ÷

- Ans
- ☒ 1. $8 \div 10 \times 20 - 14 + 16 = 6$
 - ☒ 2. $52 \times 26 \div 13 + 39 - 18 = 47$
 - ☒ 3. $15 + 16 \times 8 \div 4 - 12 = 11$
 - ☒ 4. $6 \times 4 \div 2 + 7 - 5 = 4$

Question ID : 630680938152
Option 1 ID : 6306803677086
Option 2 ID : 6306803677087
Option 3 ID : 6306803677088
Option 4 ID : 6306803677085

Q.20 If '÷' means '-', '-' means '+', '+' means '×' and '×' means '÷', then which of the following equation is correct?

- Ans
- ☒ 1. $40 + 10 \div 100 - 4 = 50 + 4 - 100 \times 1$
 - ☒ 2. $350 \times 50 + 10 - 3 = 500 \div 300 - 50 \times 5$
 - ☒ 3. $8 + 9 \times 3 \times 1 > 20 \times 2 - 8 \times 1$
 - ☒ 4. $5 \div 7 + 3 - 4 > 3 \div 5 - 6 + 4$

Question ID : 630680938191
Option 1 ID : 6306803677243
Option 2 ID : 6306803677241
Option 3 ID : 6306803677242
Option 4 ID : 6306803677244

Q.1 A series is given with one term missing. Select the correct alternative from the given ones that will complete the series.

GA, JD, MG, PJ, ?

- Ans
- ☒ 1. RN
 - ☒ 2. SM
 - ☒ 3. RM
 - ☒ 4. SN

Question ID : 630680938025
Option 1 ID : 6306803676579
Option 2 ID : 6306803676578
Option 3 ID : 6306803676580
Option 4 ID : 6306803676577

Q.2 In the following question, four letter pairs are given. The letters on left side of (–) is related to the letters on the right side of (–) with some Logic/Rule/Relation. Three are similar on basis of same Logic/Rule/Relation. Select the odd one out from the given alternatives.

- Ans
- ☒ 1. SYI – PCD
 - ☒ 2. THR – RKN
 - ☒ 3. OLE – MOA
 - ☒ 4. FDA – DGW

Question ID : 630680938023
Option 1 ID : 6306803676571
Option 2 ID : 6306803676569
Option 3 ID : 6306803676572
Option 4 ID : 6306803676570

Q.3 Four boys P, Q, R and S are sitting in a row facing towards north. Four girls A, B, C and D are sitting in a other row facing towards south. Boys are facing girls and vice versa. P is the facing the girl sitting at one of the end. C is second to the left of A. B is facing Q. Q is second to the left of S. If C is not sitting at the end, then which of the following pair of persons depicts the person sitting at the ends of the rows?

- Ans
- ☒ 1. AS
 - ☒ 2. CR
 - ☒ 3. BS
 - ☒ 4. DQ

Question ID : 630680938200
Option 1 ID : 6306803677277
Option 2 ID : 6306803677280
Option 3 ID : 6306803677279
Option 4 ID : 6306803677278

Q.4 A series is given with one term missing. Select the correct alternative from the given ones that will complete the series.

IS, JV, KY, LB, ?

- Ans

☒ 1. NC

☒ 2. OD

☒ 3. PG

☒ 4. ME

Question ID : 630680937986

Option 1 ID : 6306803676422

Option 2 ID : 6306803676421

Option 3 ID : 6306803676424

Option 4 ID : 6306803676423

Q.5 Five persons A, B, C, D and E are sitting around a circular table facing towards the centre (not necessarily in the same order). B is sitting second to the right of D. A is sitting second to the right of B. C is not an immediate neighbour of A. Who is sitting immediate right of D?

- Ans

☒ 1. A

☒ 2. B

☒ 3. C

☒ 4. E

Question ID : 630680937959

Option 1 ID : 6306803676316

Option 2 ID : 6306803676314

Option 3 ID : 6306803676315

Option 4 ID : 6306803676313

Q.6 Kamal is 45th from the top and 46th from the bottom in merit in the class. How many students are there in the class?

- Ans

☒ 1. 94

☒ 2. 93

☒ 3. 92

☒ 4. 90

Question ID : 630680937922

Option 1 ID : 6306803676165

Option 2 ID : 6306803676167

Option 3 ID : 6306803676166

Option 4 ID : 6306803676168

Q.7 In the following question, select the odd letter/letters from the given alternatives.

- Ans

☒ 1. NPR

☒ 2. SUW

☒ 3. WUT

☒ 4. HJL

Question ID : 630680938021

Option 1 ID : 6306803676561

Option 2 ID : 6306803676563

Option 3 ID : 6306803676562

Option 4 ID : 6306803676564

Q.8 In the following question below are given some statements followed by some conclusions based on those statements. Taking the given statements to be true even if they seem to be at variance from commonly known facts. Read all the conclusions and then decide which of the given conclusion logically follows the given statements.

Statements:

I. All A are B.

II. No P is A.

III. Some C are A.

Conclusions:

I. All C are B.

II. All B are A.

III. Some B are C.

- Ans ☒ 1. Only conclusion I follows
☒ 2. Neither conclusion follows
☒ 3. Only conclusion II follows
☒ 4. Only conclusion III follows

Question ID : 630680938054
 Option 1 ID : 6306803676693
 Option 2 ID : 6306803676696
 Option 3 ID : 6306803676694
 Option 4 ID : 6306803676695

Q.9 6 boys M, N, P, Q, R and S are sitting around a circular table facing towards centre (not necessarily in the same order). M and S are immediate neighbours. Q is to the immediate right of P. R is second to the right of Q. N is third to the left of S. Who is to the immediate left of R?

- Ans ☒ 1. S
☒ 2. M
☒ 3. P
☒ 4. N

Question ID : 630680938158
 Option 1 ID : 6306803677111
 Option 2 ID : 6306803677112
 Option 3 ID : 6306803677110
 Option 4 ID : 6306803677109

Q.10 Seven boxes E, F, G, H, I, J and K are placed one above the other. Three boxes are placed between box F and G. Only two boxes are placed above box H. F is placed above G. As many as boxes are placed between box K and I as between box I and E. Only one box is placed between box K and H. The number of boxes above J is same as number of boxes below which of the following?

- Ans ☒ 1. I
☒ 2. H
☒ 3. F
☒ 4. K

Question ID : 630680938042
 Option 1 ID : 6306803676646
 Option 2 ID : 6306803676648
 Option 3 ID : 6306803676647
 Option 4 ID : 6306803676645

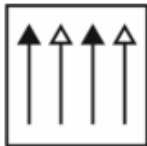
Q.11 In the following question, select the odd figure from the given alternatives.

Ans

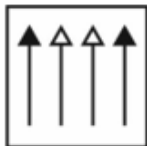
✗ 1.



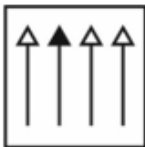
✗ 2.



✗ 3.



✓ 4.



Question ID : 630680938229
Option 1 ID : 6306803677396
Option 2 ID : 6306803677395
Option 3 ID : 6306803677393
Option 4 ID : 6306803677394

Q.12 From the given option figures, select the one in which the question figure is hidden/embedded. (rotation is not allowed)



Ans

✗ 1.



✗ 2.



✗ 3.



✓ 4.



Question ID : 630680938148
Option 1 ID : 6306803677072
Option 2 ID : 6306803677071
Option 3 ID : 6306803677069
Option 4 ID : 6306803677070

Q.13 In the following question below are given some statements followed by some conclusions based on those statements. Taking the given statements to be true even if they seem to be at variance from commonly known facts. Read all the conclusions and then decide which of the given conclusion logically follows the given statements.

Statements:

I. No P is Q.

II. No R is S.

III. No Q is R.

Conclusions:

I. Some S are P.

II. Some R are P.

III. No S is R.

Ans ✓ 1. Only conclusion III follows

✗ 2. Only conclusion II follows

✗ 3. Only conclusion I follows

✗ 4. Neither conclusion follows

Question ID : 630680938095
Option 1 ID : 6306803676859
Option 2 ID : 6306803676858
Option 3 ID : 6306803676857
Option 4 ID : 6306803676860

Q.14 From the given option figures, select the one in which the question figure is hidden/embedded. (rotation is not allowed)



Ans

✓ 1.



✗ 2.



✗ 3.



✗ 4.



Question ID : 630680938108
Option 1 ID : 6306803676910
Option 2 ID : 6306803676911
Option 3 ID : 6306803676909
Option 4 ID : 6306803676912

Q.15 In the following question, select the odd letter/letters from the given alternatives.

- Ans
- ✗ 1. XZA
 - ✗ 2. KMN
 - ✗ 3. UWX
 - ✓ 4. PRT

Question ID : 630680937940
Option 1 ID : 6306803676237
Option 2 ID : 6306803676240
Option 3 ID : 6306803676238
Option 4 ID : 6306803676239

Q.16 6 boys A, B, C, D, E and F live in a six-floor building (not necessarily in the same order). Lowermost floor is numbered 1, floor above it is numbered 2 and so on till the topmost floor which is numbered 6. No two persons live on the same floor. F lives on an odd numbered floor. Three persons live between A and B. Only A and F lives above D. C lives on an prime numbered floor. How many persons lives below D?

- Ans
- ☒ 1. Four
 - ☒ 2. Two
 - ☒ 3. Five
 - ☒ 4. Three

Question ID : 630680938163
Option 1 ID : 6306803677130
Option 2 ID : 6306803677129
Option 3 ID : 6306803677132
Option 4 ID : 6306803677131

Q.17 In the following question, group of letter clusters is given. The letter clusters of each group are related with the other letter clusters of the same group by some Logic/Rule/Relation. From the given alternatives, select the group of letter clusters which follows the same Logic/Rule/Relation.

(YB, XZ, WX)
(QI, PG, OE)

- Ans
- ☒ 1. (JZ, IW, HU)
 - ☒ 2. (OC, NZ, MX)
 - ☒ 3. (PT, OQ, NO)
 - ☒ 4. (VD, UB, TZ)

Question ID : 630680938179
Option 1 ID : 6306803677196
Option 2 ID : 6306803677194
Option 3 ID : 6306803677193
Option 4 ID : 6306803677195

Q.18 In the following question below are given some statements followed by some conclusions based on those statements. Taking the given statements to be true even if they seem to be at variance from commonly known facts. Read all the conclusions and then decide which of the given conclusion logically follows the given statements.

Statements:
I. Some B are A.
II. All A are P.
III. All P are Q.

Conclusions:
I. Some B are Q.
II. Some P are not B.
III. Some Q are not A.

- Ans
- ☒ 1. Only conclusion II follows
 - ☒ 2. Only conclusion I follows
 - ☒ 3. Only conclusion III follows
 - ☒ 4. Neither conclusion follows

Question ID : 630680938094
Option 1 ID : 6306803676854
Option 2 ID : 6306803676853
Option 3 ID : 6306803676855
Option 4 ID : 6306803676856

Q.19 In the following question, select the odd letter/letters from the given alternatives.

- Ans ☒ 1. JLN
☒ 2. EHJ
☒ 3. CFH
☒ 4. ADF

Question ID : 630680937982
 Option 1 ID : 6306803676406
 Option 2 ID : 6306803676407
 Option 3 ID : 6306803676408
 Option 4 ID : 6306803676405

Q.20 A series is given with one term missing. Select the correct alternative from the given ones that will complete the series.

MZ, KW, IT, GQ, EN, ?

- Ans ☒ 1. DL
☒ 2. CL
☒ 3. DK
☒ 4. CK

Question ID : 630680937984
 Option 1 ID : 6306803676416
 Option 2 ID : 6306803676413
 Option 3 ID : 6306803676415
 Option 4 ID : 6306803676414

Section : General Awareness 1

Q.1 Krishnat Khot received the Sahitya Akademi Award 2023 for which Marathi literary work?

- Ans ☒ 1. Kadachit Ajoonahi
☒ 2. Udyā
☒ 3. Ringaan
☒ 4. Ujavya Sondechya Bahulya

Question ID : 630680939528
 Option 1 ID : 6306803682538
 Option 2 ID : 6306803682537
 Option 3 ID : 6306803682535
 Option 4 ID : 6306803682536

Q.2 The snow leopard (*Panthera uncia*) is listed under which schedule of the Wildlife (Protection) Act 1972?

- Ans
- ☒ 1. Schedule III
 - ☒ 2. Schedule II
 - ☒ 3. Schedule I
 - ☒ 4. Schedule IV

Question ID : 630680939473
Option 1 ID : 6306803682317
Option 2 ID : 6306803682316
Option 3 ID : 6306803682315
Option 4 ID : 6306803682318

Q.3 In which state is Moh-Moi festival celebrated?

- Ans
- ☒ 1. Andhra Pradesh
 - ☒ 2. Madhya Pradesh
 - ☒ 3. Kerala
 - ☒ 4. Arunachal Pradesh

Question ID : 630680939572
Option 1 ID : 6306803682712
Option 2 ID : 6306803682713
Option 3 ID : 6306803682711
Option 4 ID : 6306803682714

Q.4 'Dhara: Ode to Indian Knowledge Systems' is a flagship initiative of which of the following ministries?

- Ans
- ☒ 1. Ministry of Culture
 - ☒ 2. Ministry of Finance
 - ☒ 3. Ministry of Education
 - ☒ 4. Ministry of Home Affairs

Question ID : 630680939394
Option 1 ID : 6306803682000
Option 2 ID : 6306803682002
Option 3 ID : 6306803681999
Option 4 ID : 6306803682001

Q.5 Researchers from which of the following institutes partnered with Defense Research and Development Organization (DRDO) scientists to develop sensor technology for underwater communications in May 2023?

- Ans
- ☒ 1. IIT Madras
 - ☒ 2. IIT Mumbai
 - ☒ 3. IIT Kanpur
 - ☒ 4. IIT Delhi

Question ID : 630680939438
Option 1 ID : 6306803682177
Option 2 ID : 6306803682178
Option 3 ID : 6306803682176
Option 4 ID : 6306803682175

Q.6 Accumulation of high concentration of _____ has led to the phenomenon of global warming.

- Ans ☒ 1. Nitrogen
☒ 2. Carbon dioxide
☒ 3. Carbon monoxide
☒ 4. Oxygen

Question ID : 630680939629
 Option 1 ID : 6306803682940
 Option 2 ID : 6306803682942
 Option 3 ID : 6306803682941
 Option 4 ID : 6306803682939

Q.7 In which city was India's first 'Police Drone Unit' launched in June 2023?

- Ans ☒ 1. Pune
☒ 2. Chennai
☒ 3. Bhopal
☒ 4. Chandigarh

Question ID : 630680939435
 Option 1 ID : 6306803682166
 Option 2 ID : 6306803682165
 Option 3 ID : 6306803682164
 Option 4 ID : 6306803682163

Q.8 Which of the following is helpful for exploring and mapping the ocean?

I. SONAR
 II. RADAR

- Ans ☒ 1. Only II
☒ 2. Neither I nor II
☒ 3. Only I
☒ 4. Both I and II

Question ID : 630680939468
 Option 1 ID : 6306803682296
 Option 2 ID : 6306803682298
 Option 3 ID : 6306803682295
 Option 4 ID : 6306803682297

Q.9 In which of the following cities of India, regional language centre is NOT located?

- Ans ☒ 1. Karnal
☒ 2. Mysore
☒ 3. Guwahati
☒ 4. Patiala

Question ID : 630680939569
 Option 1 ID : 6306803682702
 Option 2 ID : 6306803682699
 Option 3 ID : 6306803682701
 Option 4 ID : 6306803682700

Q.10 In which city of India was the first commercial building using 3D printing technology inaugurated in August 2023?

- Ans
- ☐ 1. Chennai
 - ☐ 2. Pune
 - ☐ 3. Hyderabad
 - ☒ 4. Bengaluru

Question ID : 630680939478
Option 1 ID : 6306803682336
Option 2 ID : 6306803682338
Option 3 ID : 6306803682337
Option 4 ID : 6306803682335

Q.11 When the litmus solution is neither acidic nor basic, its colour is ____.

- Ans
- ☐ 1. Blue
 - ☐ 2. Red
 - ☒ 3. Purple
 - ☐ 4. Green

Question ID : 630680939504
Option 1 ID : 6306803682441
Option 2 ID : 6306803682439
Option 3 ID : 6306803682440
Option 4 ID : 6306803682442

Q.12 Which of the following is used in the manufacture of borax?

- Ans
- ☒ 1. Washing Soda
 - ☐ 2. Calcium Phosphate
 - ☐ 3. Baking Soda
 - ☐ 4. Chlorine

Question ID : 630680939624
Option 1 ID : 6306803682921
Option 2 ID : 6306803682919
Option 3 ID : 6306803682920
Option 4 ID : 6306803682922

Q.13 Which of the following is a popular festival of West Bengal that is celebrated throughout India in September or October?

- Ans
- ☐ 1. Baishagu
 - ☐ 2. Bihu
 - ☐ 3. Poila Baishakh
 - ☒ 4. Durga Puja

Question ID : 630680939371
Option 1 ID : 6306803681910
Option 2 ID : 6306803681909
Option 3 ID : 6306803681907
Option 4 ID : 6306803681908

Q.14 Who among the following is known as the 'Patron Saint of Amphibians'?

- Ans ☒ 1. Alok Bhattacharya
☒ 2. Sathyabhama Das Biju
☒ 3. Ganesh Nagaraju
☒ 4. Rameshwar Nath Koul

Question ID : 630680939512
 Option 1 ID : 6306803682472
 Option 2 ID : 6306803682473
 Option 3 ID : 6306803682474
 Option 4 ID : 6306803682471

Q.15 Which tribal language is spoken by indigenous communities in Kanyakumari and Tirunelveli regions of Tamil Nadu?

- Ans ☒ 1. Kanikkaran
☒ 2. Toda
☒ 3. Ao
☒ 4. Urali

Question ID : 630680939409
 Option 1 ID : 6306803682062
 Option 2 ID : 6306803682060
 Option 3 ID : 6306803682061
 Option 4 ID : 6306803682059

Q.16 Soundarya, is the first AI news anchor of which regional language of India?

- Ans ☒ 1. Kannada
☒ 2. Bengali
☒ 3. Telugu
☒ 4. Hindi

Question ID : 630680939399
 Option 1 ID : 6306803682019
 Option 2 ID : 6306803682020
 Option 3 ID : 6306803682022
 Option 4 ID : 6306803682021

Q.17 Which of the following state legislative assemblies of India adopted the SC/ST (Prevention of Transfer of Certain Lands (Amendment)) Bill in July 2023, which seeks to impose a "time limit" on preventing transfer of lands granted to SC/ST communities?

- Ans ☒ 1. Assam
☒ 2. Karnataka
☒ 3. Madhya Pradesh
☒ 4. Punjab

Question ID : 630680939596
 Option 1 ID : 6306803682807
 Option 2 ID : 6306803682809
 Option 3 ID : 6306803682808
 Option 4 ID : 6306803682810

Q.18 Where in India is the first-ever night street racing circuit located?

- Ans
- ☐ 1. Patna
 - ☐ 2. Goa
 - ☒ 3. Chennai
 - ☐ 4. Nagpur

Question ID : 630680939391
Option 1 ID : 6306803681990
Option 2 ID : 6306803681988
Option 3 ID : 6306803681987
Option 4 ID : 6306803681989

Q.19 The ASEAN-India Summit 2023 was held in which of the following city?

- Ans
- ☒ 1. Jakarta
 - ☐ 2. Dubai
 - ☐ 3. Hanoi
 - ☐ 4. Bangkok

Question ID : 630680939550
Option 1 ID : 6306803682625
Option 2 ID : 6306803682626
Option 3 ID : 6306803682623
Option 4 ID : 6306803682624

Q.20 In which zoo of the United States of America, a unique giraffe without spots was born in July 2023?

- Ans
- ☒ 1. Brights Zoo, Tennessee
 - ☐ 2. Bronx Zoo, New York
 - ☐ 3. Denver Zoo, Colorado
 - ☐ 4. San Diego Zoo, California

Question ID : 630680939472
Option 1 ID : 6306803682313
Option 2 ID : 6306803682311
Option 3 ID : 6306803682314
Option 4 ID : 6306803682312

Section : General Awareness 2

Q.1 What is the width of the Himalayas in Kashmir?

- Ans
- ☐ 1. 150 km
 - ☐ 2. 600 km
 - ☒ 3. 400 km
 - ☐ 4. 700 km

Question ID : 630680939573
Option 1 ID : 6306803682715
Option 2 ID : 6306803682717
Option 3 ID : 6306803682716
Option 4 ID : 6306803682718

Q.2 Which Sultan of Delhi was defeated by Babur in 1526 CE at Panipat?

- Ans



1. Khizr Khan



2. Ibrahim Lodi



3. Bahlul Lodi



4. Firuz Shah Tughluq

Question ID : 630680939366
 Option 1 ID : 6306803681888
 Option 2 ID : 6306803681890
 Option 3 ID : 6306803681889
 Option 4 ID : 6306803681887

Q.3 According to the Constitution of India, who among the following is the protector of the fundamental rights of the citizen?

- Ans



1. President



2. Supreme court



3. Chief justice of India




4. Parliament


Question ID : 630680939501
 Option 1 ID : 6306803682430
 Option 2 ID : 6306803682428
 Option 3 ID : 6306803682429
 Option 4 ID : 6306803682427

Q.4 Agra and Darjeeling are located on the same latitude, but temperature of January in Agra is 16°C whereas it is only 4°C in Darjeeling. Their climate difference is due to which of the following?


- Ans




1. Effect of Western disturbance



2. Distance from sea



3. Difference in air pressure




4. Difference in their altitude


Question ID : 630680939496
 Option 1 ID : 6306803682410
 Option 2 ID : 6306803682407
 Option 3 ID : 6306803682408
 Option 4 ID : 6306803682409

Q.5 What is the average annual growth rate of India's population as per the 2011 census?


- Ans




1. 2.89 %



2. 0.89 %



3. 1.63 %



4. 2.13 %

Question ID : 630680939417
 Option 1 ID : 6306803682094
 Option 2 ID : 6306803682091
 Option 3 ID : 6306803682092
 Option 4 ID : 6306803682093

Q.6 Which of the following is a type of Brown algae?

- Ans ☐ 1. Volvox
☐ 2. Chlamydomonas
☒ 3. Laminaria
☐ 4. Spirogyra

Question ID : 630680939385
 Option 1 ID : 6306803681966
 Option 2 ID : 6306803681963
 Option 3 ID : 6306803681965
 Option 4 ID : 6306803681964

Q.7 Ladakh's high altitudes are home to which of the following animals?

- I. Yak
 II. Kiang

- Ans ☐ 1. Only II
☒ 2. Both I and II
☐ 3. Neither I nor II
☐ 4. Only I

Question ID : 630680939335
 Option 1 ID : 6306803681764
 Option 2 ID : 6306803681765
 Option 3 ID : 6306803681766
 Option 4 ID : 6306803681763

Q.8 Who among the following is included in the Parliament of India?

- I. The President
 II. The Rajya Sabha
 III. The Lok Sabha

- Ans ☐ 1. Only II and III
☐ 2. Only I and II
☐ 3. Only I and III
☒ 4. I, II and III

Question ID : 630680939463
 Option 1 ID : 6306803682276
 Option 2 ID : 6306803682275
 Option 3 ID : 6306803682277
 Option 4 ID : 6306803682278

Q.9 Which of the following fundamental rights does NOT come under the "Right to Freedom of Religion" provided by the Indian Constitution?

- Ans ☒ 1. Right of minorities to establish educational institutions
- ☐ 2. Freedom to manage religious affairs
- ☐ 3. Freedom of conscience and free profession, practice and propagation of religion
- ☐ 4. Freedom to pay taxes for promotion of any particular religion

Question ID : 630680939620
Option 1 ID : 6306803682905
Option 2 ID : 6306803682904
Option 3 ID : 6306803682903
Option 4 ID : 6306803682906

Q.10 Periodically, banks have to give information to which of the following institution in India about how much loan they are giving, to whom, at what interest rate?

- Ans ☐ 1. Finance Ministry
- ☐ 2. Securities and Exchange Board of India
- ☐ 3. State Bank of India
- ☒ 4. Reserve Bank Of India

Question ID : 630680939482
Option 1 ID : 6306803682353
Option 2 ID : 6306803682352
Option 3 ID : 6306803682354
Option 4 ID : 6306803682351

Q.11 Which of the following laws states that marginal utility from consuming each additional unit of a commodity declines as its consumption increases, while keeping consumption of other commodities constant?

- Ans ☒ 1. Law of Diminishing Marginal Utility
- ☐ 2. Law of competition
- ☐ 3. Law of Demand
- ☐ 4. Concept of opportunity cost

Question ID : 630680939561
Option 1 ID : 6306803682668
Option 2 ID : 6306803682669
Option 3 ID : 6306803682667
Option 4 ID : 6306803682670

Q.12 In which year was the Khalsa College, Amritsar, established?

- Ans ☐ 1. 1872
- ☐ 2. 1862
- ☒ 3. 1892
- ☐ 4. 1882

Question ID : 630680939523
Option 1 ID : 6306803682516
Option 2 ID : 6306803682515
Option 3 ID : 6306803682518
Option 4 ID : 6306803682517

Q.13 Who was the founder of the Brahmo Samaj?

- Ans ☒ 1. Ishwarchandra Vidyasagar
☒ 2. Raja Rammohun Roy
☒ 3. Swami Dayanand Saraswati
☒ 4. Swami Vivekananda

Question ID : 630680939323
 Option 1 ID : 6306803681717
 Option 2 ID : 6306803681716
 Option 3 ID : 6306803681715
 Option 4 ID : 6306803681718

Q.14 Which of the following states is NOT included in the Ganga plain?

- Ans ☒ 1. Uttar Pradesh
☒ 2. Haryana
☒ 3. Bihar
☒ 4. Assam

Question ID : 630680939493
 Option 1 ID : 6306803682397
 Option 2 ID : 6306803682395
 Option 3 ID : 6306803682398
 Option 4 ID : 6306803682396

Q.15 Which of the following are the first terrestrial plants to possess vascular tissues?

- Ans ☒ 1. Gymnosperm
☒ 2. Pteridophyte
☒ 3. Moss
☒ 4. Bryophytes

Question ID : 630680939586
 Option 1 ID : 6306803682768
 Option 2 ID : 6306803682770
 Option 3 ID : 6306803682767
 Option 4 ID : 6306803682769

Q.16 Which of the following Schedule contains provisions regarding administration of tribal areas in the states of Assam, Meghalaya, Tripura and Mizoram?

- Ans ☒ 1. Fourth schedule
☒ 2. First schedule
☒ 3. Third schedule
☒ 4. Sixth schedule

Question ID : 630680939623
 Option 1 ID : 6306803682917
 Option 2 ID : 6306803682915
 Option 3 ID : 6306803682916
 Option 4 ID : 6306803682918

Q.17 Who among the following was the ruler of Delhi during the period 1266–1287?

- Ans ☒ 1. Ghiyasuddin Tughluq
☒ 2. Ghiyasuddin Balban
☒ 3. Muhammad Tughluq
☒ 4. Firuz Shah Tughluq

Question ID : 630680939605
 Option 1 ID : 6306803682843
 Option 2 ID : 6306803682844
 Option 3 ID : 6306803682845
 Option 4 ID : 6306803682846

Q.18 According to NSS (National Sample Survey) 2011-12, what percentage of female workers in rural India is self-employed?

- Ans ☒ 1. 23.5
☒ 2. 59.3
☒ 3. 66.7
☒ 4. 42.4

Question ID : 630680939418
 Option 1 ID : 6306803682095
 Option 2 ID : 6306803682097
 Option 3 ID : 6306803682098
 Option 4 ID : 6306803682096

Q.19 National development dairy model was set up in which of the following year?

- Ans ☒ 1. 1952
☒ 2. 1959
☒ 3. 1965
☒ 4. 1944

Question ID : 630680939601
 Option 1 ID : 6306803682828
 Option 2 ID : 6306803682829
 Option 3 ID : 6306803682830
 Option 4 ID : 6306803682827

Q.20 Which of the following is Cultural and Educational Rights provided by Indian constitution?

- Ans ☒ 1. Equality of opportunity in public employment
☒ 2. Abolition of titles
☒ 3. Protection of language, culture of minorities
☒ 4. Freedom of speech and expression

Question ID : 630680939420
 Option 1 ID : 6306803682103
 Option 2 ID : 6306803682104
 Option 3 ID : 6306803682106
 Option 4 ID : 6306803682105

Q.1 If the difference between the two numbers is 80 percent of their sum, then what is the ratio of larger number and smaller number?

- Ans
- ☒ 1. 11 : 1
 - ☒ 2. 9 : 1
 - ☒ 3. 5 : 3
 - ☒ 4. 7 : 2

Question ID : 630680937749
Option 1 ID : 6306803675479
Option 2 ID : 6306803675480
Option 3 ID : 6306803675478
Option 4 ID : 6306803675477

Q.2 What should be added to 50 percent of 450 so that the obtained number is equal to 70 percent of 360?

- Ans
- ☒ 1. 17
 - ☒ 2. 27
 - ☒ 3. 37
 - ☒ 4. 47

Question ID : 630680937708
Option 1 ID : 6306803675313
Option 2 ID : 6306803675314
Option 3 ID : 6306803675315
Option 4 ID : 6306803675316

Q.3 Among $\sqrt{11} - \sqrt{9}$, $\sqrt{7} - \sqrt{5}$, $\sqrt{13} - \sqrt{11}$, $\sqrt{10} - \sqrt{8}$ which is the greatest?

- Ans
- ☒ 1. $\sqrt{13} - \sqrt{11}$
 - ☒ 2. $\sqrt{10} - \sqrt{8}$
 - ☒ 3. $\sqrt{11} - \sqrt{9}$
 - ☒ 4. $\sqrt{7} - \sqrt{5}$

Question ID : 630680937586
Option 1 ID : 6306803674827
Option 2 ID : 6306803674828
Option 3 ID : 6306803674825
Option 4 ID : 6306803674826

Q.4 If $(25)^{2x-3} = (125)^2$, then what is the value of x?

- Ans
- ✓ 1. 3
 - ✗ 2. 2
 - ✗ 3. 8
 - ✗ 4. 1

Question ID : 630680937587
Option 1 ID : 6306803674832
Option 2 ID : 6306803674829
Option 3 ID : 6306803674831
Option 4 ID : 6306803674830

Q.5 The average marks obtained by 60 students in an examination is 75. If the average marks of the students who passed is 105 and the average marks of the students who failed is 65, then what is the number of students who failed in the examination?

- Ans
- ✗ 1. 50
 - ✗ 2. 57
 - ✗ 3. 52
 - ✓ 4. 45

Question ID : 630680937613
Option 1 ID : 6306803674935
Option 2 ID : 6306803674933
Option 3 ID : 6306803674934
Option 4 ID : 6306803674936

Q.6 What is the value of $218 - 142 + 134 + 112 - 412 + 99$?

- Ans
- ✓ 1. 9
 - ✗ 2. 11
 - ✗ 3. 13
 - ✗ 4. 7

Question ID : 630680937582
Option 1 ID : 6306803674810
Option 2 ID : 6306803674811
Option 3 ID : 6306803674812
Option 4 ID : 6306803674809

Q.7 The average of 200 results is 97. If 4 is subtracted from each result, then what will be the new average of the results?

- Ans
- ☒ 1. 95
 - ☒ 2. 93
 - ☒ 3. 92
 - ☒ 4. 91

Question ID : 630680937691
Option 1 ID : 6306803675248
Option 2 ID : 6306803675246
Option 3 ID : 6306803675247
Option 4 ID : 6306803675245

Q.8 If $x = \sqrt{81} + \sqrt{64} - \sqrt{100}$, then what is the value of x^2 ?

- Ans
- ☒ 1. 64
 - ☒ 2. 49
 - ☒ 3. 16
 - ☒ 4. 36

Question ID : 630680937664
Option 1 ID : 6306803675139
Option 2 ID : 6306803675138
Option 3 ID : 6306803675140
Option 4 ID : 6306803675137

Q.9 Abhishek marks the price of his laptop 60 percent above the cost price. He allows his customer a discount of 20 percent on the marked price. What is the profit percentage?

- Ans
- ☒ 1. 28 percent
 - ☒ 2. 40 percent
 - ☒ 3. 30 percent
 - ☒ 4. 20 percent

Question ID : 630680937794
Option 1 ID : 6306803675658
Option 2 ID : 6306803675657
Option 3 ID : 6306803675659
Option 4 ID : 6306803675660

Q.10 A shopkeeper purchased a chair whose marked price is ₹ 9400, at two successive discount of 15 percent and 40 percent. If he sells the chair for ₹ 6232.20, then what is the profit percentage?

- Ans
- ✗ 1. 25 percent
 - ✗ 2. 20 percent
 - ✗ 3. 35 percent
 - ✓ 4. 30 percent

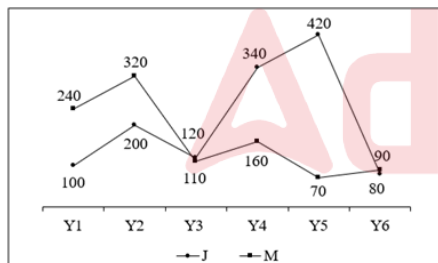
Question ID : 630680937755
Option 1 ID : 6306803675503
Option 2 ID : 6306803675502
Option 3 ID : 6306803675504
Option 4 ID : 6306803675501

Q.11 If $\frac{5}{12} - \frac{2}{A} = \frac{7}{36}$, then what is the value of A?

- Ans
- ✗ 1. 11
 - ✗ 2. 12
 - ✗ 3. 7
 - ✓ 4. 9

Question ID : 630680937663
Option 1 ID : 6306803675135
Option 2 ID : 6306803675134
Option 3 ID : 6306803675133
Option 4 ID : 6306803675136

Q.12 The line chart given below shows the production of cars by two companies J and M in the given 6 years.



P – Average production of J in the given 6 years.

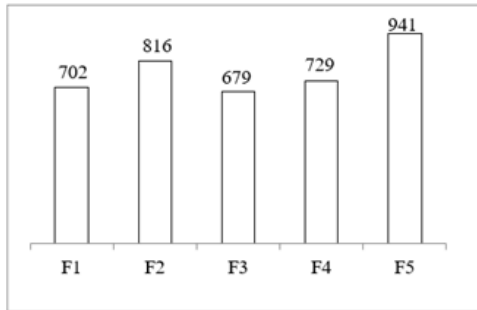
Q – Average production of M in the given 6 years.

What is the approximate value of $\frac{P}{Q}$?

- Ans
- ✗ 1. 1.9
 - ✓ 2. 1.27
 - ✗ 3. 1.34
 - ✗ 4. 1.48

Question ID : 630680937661
Option 1 ID : 6306803675128
Option 2 ID : 6306803675125
Option 3 ID : 6306803675126
Option 4 ID : 6306803675127

Q.13 The bar graph given below shows the production of shoes in 5 different factories.



What is the ratio of production of shoes in factories F1 and F2?

- Ans
- ✓ 1. 117 : 136
 - ✗ 2. 120 : 131
 - ✗ 3. 119 : 121
 - ✗ 4. 136 : 117

Question ID : 630680937619
 Option 1 ID : 6306803674958
 Option 2 ID : 6306803674959
 Option 3 ID : 6306803674957
 Option 4 ID : 6306803674960

Q.14 P invested ₹ 500 for 2 years at compound interest (compounded annually) in a company which paid him total interest of ₹ 105. What will be the annual rate of interest at which P invested his money?

- Ans
- ✗ 1. 9 percent
 - ✓ 2. 10 percent
 - ✗ 3. 12 percent
 - ✗ 4. 14 percent

Question ID : 630680937777
 Option 1 ID : 6306803675592
 Option 2 ID : 6306803675590
 Option 3 ID : 6306803675589
 Option 4 ID : 6306803675591

Q.15

What is the value of $\frac{\sqrt{7} + \sqrt{6}}{\sqrt{7} - \sqrt{6}}$?

Ans

✓ 1. $(\sqrt{7} + \sqrt{6})^2$

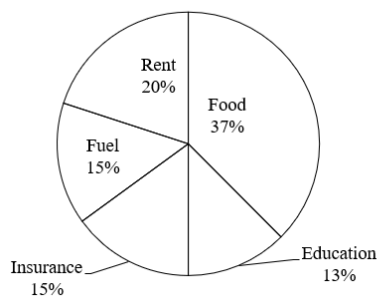
✗ 2. $(\sqrt{7} - 6)^2$

✗ 3. $(\sqrt{7} + 6)^2$

✗ 4. $(\sqrt{7} - \sqrt{6})^2$

Question ID : 630680937744
Option 1 ID : 6306803675458
Option 2 ID : 6306803675457
Option 3 ID : 6306803675460
Option 4 ID : 6306803675459

Q.16 The given pie chart shows expenditure of a family for a particular month under different heads as percentages of the total expenditure for the month which was Rs. 72000.



The expenditure incurred on food is approximately how much percent more than the expenditure incurred on education?

Ans

✓ 1. 184.62 percent

✗ 2. 170.62 percent

✗ 3. 179.80 percent

✗ 4. 168.33 percent

Question ID : 630680937658
Option 1 ID : 6306803675115
Option 2 ID : 6306803675116
Option 3 ID : 6306803675113
Option 4 ID : 6306803675114

Q.17 Average age of a group of 45 boys is 29 years. A boy having age 27 years leaves the group. A new boy joins the group and the average increases by 1 year. What is the age of the new boy?

- Ans**
- ☐ 1. 76 years
 - ☐ 2. 74 years
 - ☐ 3. 78 years
 - ☒ 4. 72 years

Question ID : 630680937772
Option 1 ID : 6306803675572
Option 2 ID : 6306803675571
Option 3 ID : 6306803675570
Option 4 ID : 6306803675569

Q.18 If at compound interest (compounding annually) a certain sum becomes 4 times of itself in 5 years, then in how many years will it become 16 times of itself?

- Ans**
- ☐ 1. 12 years
 - ☒ 2. 10 years
 - ☐ 3. 15 years
 - ☐ 4. 13 years

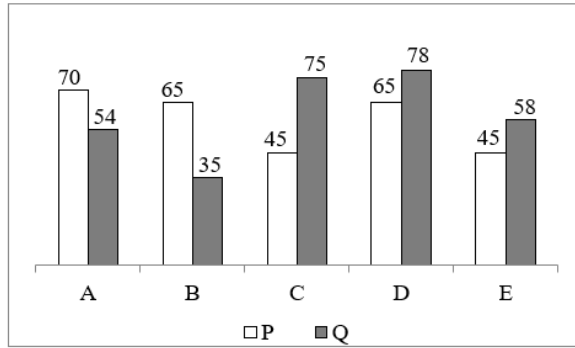
Question ID : 630680937656
Option 1 ID : 6306803675106
Option 2 ID : 6306803675108
Option 3 ID : 6306803675105
Option 4 ID : 6306803675107

Q.19 Ram scored 10 percent marks in an exam and failed by 30 marks. If he scores 40 percent marks, then he gets 9 marks more than passing marks. What should be the passing marks for the exam?

- Ans**
- ☐ 1. 45
 - ☐ 2. 44
 - ☐ 3. 46
 - ☒ 4. 43

Question ID : 630680937751
Option 1 ID : 6306803675486
Option 2 ID : 6306803675485
Option 3 ID : 6306803675487
Option 4 ID : 6306803675488

Q.20 The bar graph given below shows the expenditure (in ₹) on five articles by two persons, P and Q.



What is the average expenditure (in ₹) on articles B, C and D by person P?

- Ans**
- ✓ 1. 58.33
 - ✗ 2. 59.99
 - ✗ 3. 56.95
 - ✗ 4. 57.33

Question ID : 630680937780
 Option 1 ID : 6306803675602
 Option 2 ID : 6306803675604
 Option 3 ID : 6306803675603
 Option 4 ID : 6306803675601

Section : Arithmetical and Numerical Ability 2

Q.1 Two cubes, each of edge 8 cm, are joined to form a single cuboid. What is the total surface area of the cuboid thus formed?

- Ans**
- ✗ 1. 520 cm²
 - ✗ 2. 580 cm²
 - ✓ 3. 640 cm²
 - ✗ 4. 720 cm²

Question ID : 630680937648
 Option 1 ID : 6306803675075
 Option 2 ID : 6306803675073
 Option 3 ID : 6306803675074
 Option 4 ID : 6306803675076

Q.2 Three partners X, Y and Z share profit such that 5 times of the X's share is equal to 4 times of the Y's share and equal to 8 times of the Z's share. What is the ratio of the profits of X, Y and Z respectively?

- Ans**
- ☒ 1. 8 : 10 : 3
 - ☒ 2. 6 : 10 : 5
 - ☒ 3. 7 : 10 : 5
 - ☒ 4. 8 : 10 : 5

Question ID : 630680937718
Option 1 ID : 6306803675353
Option 2 ID : 6306803675356
Option 3 ID : 6306803675354
Option 4 ID : 6306803675355

Q.3 The sum of the length, the breadth and the height of a closed cuboid is 22 cm. If its diagonal is 13 cm long, then what is the total surface area of the cuboid?

- Ans**
- ☒ 1. 236 cm²
 - ☒ 2. 315 cm²
 - ☒ 3. 279 cm²
 - ☒ 4. 356 cm²

Question ID : 630680937566
Option 1 ID : 6306803674748
Option 2 ID : 6306803674745
Option 3 ID : 6306803674747
Option 4 ID : 6306803674746

Q.4 The length of a diagonal of a quadrilateral is 14 cm. The lengths of the perpendiculars drawn on this diagonal from the other two vertices of the given quadrilateral are 12 cm and 8 cm respectively. What is the area of the quadrilateral?

- Ans**
- ☒ 1. 140 cm²
 - ☒ 2. 70 cm²
 - ☒ 3. 90 cm²
 - ☒ 4. 120 cm²

Question ID : 630680937690
Option 1 ID : 6306803675244
Option 2 ID : 6306803675241
Option 3 ID : 6306803675243
Option 4 ID : 6306803675242

Q.5 When a wire is bent in the form of a square, then the area enclosed by it is 4356 cm^2 . If the same wire is bent into the form of a circle, then what will be the area enclosed by the wire? [Use $\pi = \frac{22}{7}$]

- Ans**
- ☒ 1. 4855 cm^2
 - ☒ 2. 6622 cm^2
 - ☒ 3. 3954 cm^2
 - ☒ 4. 5544 cm^2

Question ID : 630680937569
Option 1 ID : 6306803674760
Option 2 ID : 6306803674758
Option 3 ID : 6306803674759
Option 4 ID : 6306803674757

Q.6 A is twice as efficient as B. If A and B together can complete a piece of work in 30 days, then in how many days can A alone complete the same piece of work?

- Ans**
- ☒ 1. 90 days
 - ☒ 2. 30 days
 - ☒ 3. 60 days
 - ☒ 4. 45 days

Question ID : 630680937600
Option 1 ID : 6306803674882
Option 2 ID : 6306803674881
Option 3 ID : 6306803674883
Option 4 ID : 6306803674884

Q.7 If the price of tables is increased by 90 percent, then a person can buy 81 tables less for Rs. 110295. What is the original price of a table?

- Ans**
- ☒ 1. Rs. 645
 - ☒ 2. Rs. 640
 - ☒ 3. Rs. 650
 - ☒ 4. Rs. 635

Question ID : 630680937550
Option 1 ID : 6306803674684
Option 2 ID : 6306803674683
Option 3 ID : 6306803674681
Option 4 ID : 6306803674682

Q.8 Each of the length, the breadth and the height of a cuboid is decreased by 9 percent. What is the percentage decrease in the total surface area of the cuboid?

- Ans**
- ✓ 1. 17.19 percent
 - ✗ 2. 19.46 percent
 - ✗ 3. 15.26 percent
 - ✗ 4. 22.78 percent

Question ID : 630680937647
Option 1 ID : 6306803675070
Option 2 ID : 6306803675071
Option 3 ID : 6306803675069
Option 4 ID : 6306803675072

Q.9 Two trains are moving in the same direction at the speed of 54 km/hr and 120 km/hr, respectively, and their lengths are 320 metres and 560 metres respectively. What will be the time taken by the faster train to cross the slower train?

- Ans**
- ✗ 1. 60 seconds
 - ✗ 2. 54 seconds
 - ✗ 3. 32 seconds
 - ✓ 4. 48 seconds

Question ID : 630680937722
Option 1 ID : 6306803675369
Option 2 ID : 6306803675370
Option 3 ID : 6306803675372
Option 4 ID : 6306803675371

Q.10 The ratio of milk to water in three cups is 7 : 5, 9 : 4 and 2 : 9 respectively. 24 liters of first cup and 26 liters of second cup are taken. How much quantity from third cup is to be taken so that final mixture from the three cups will have milk and water in ratio 1 : 1?

- Ans**
- ✗ 1. 28 litres
 - ✗ 2. 12 litres
 - ✗ 3. 18 litres
 - ✓ 4. 22 litres

Question ID : 630680937719
Option 1 ID : 6306803675357
Option 2 ID : 6306803675358
Option 3 ID : 6306803675360
Option 4 ID : 6306803675359

Q.11 The ratio of two numbers is 6 : 13. If the sum of these numbers is 190, then what is the value of the smaller number?

- Ans**
- ☒ 1. 190
 - ☒ 2. 130
 - ☒ 3. 170
 - ☒ 4. 60

Question ID : 630680937597
Option 1 ID : 6306803674871
Option 2 ID : 6306803674870
Option 3 ID : 6306803674872
Option 4 ID : 6306803674869

Q.12 In a school there are a total of 325 students (both boys and girls together). The respective ratio of boys and girls is 7 : 6. If 25 more boys get admitted into the school, then what will be the new ratio of boys and girls respectively?

- Ans**
- ☒ 1. 4 : 3
 - ☒ 2. 8 : 3
 - ☒ 3. 4 : 5
 - ☒ 4. 2 : 3

Question ID : 630680937636
Option 1 ID : 6306803675026
Option 2 ID : 6306803675028
Option 3 ID : 6306803675025
Option 4 ID : 6306803675027

Q.13 The length of a cuboid is seven times of its breadth and the height of the cuboid is six times of its breadth. If the breadth of the cuboid is 2 cm, then what is the total surface area of the cuboid?

- Ans**
- ☒ 1. 600 cm^2
 - ☒ 2. 560 cm^2
 - ☒ 3. 380 cm^2
 - ☒ 4. 440 cm^2

Question ID : 630680937565
Option 1 ID : 6306803674741
Option 2 ID : 6306803674744
Option 3 ID : 6306803674742
Option 4 ID : 6306803674743

Q.14 A sum of Rs. 10000 is invested at 20 percent simple interest per annum. If Rs. 4000 is the accrued interest, then for how many months is the sum invested?

- Ans**
- ✓ 1. 24 months
 - ✗ 2. 30 months
 - ✗ 3. 18 months
 - ✗ 4. 28 months

Question ID : 630680937534
Option 1 ID : 6306803674619
Option 2 ID : 6306803674618
Option 3 ID : 6306803674617
Option 4 ID : 6306803674620

Q.15 On a watch, the profit earned is 452 percent of the cost price. If the cost price increases by 20 percent but the selling price remains the same as before, then what will be the new profit percentage?

- Ans**
- ✗ 1. 350 percent
 - ✓ 2. 360 percent
 - ✗ 3. 460 percent
 - ✗ 4. 300 percent

Question ID : 630680937593
Option 1 ID : 6306803674853
Option 2 ID : 6306803674855
Option 3 ID : 6306803674854
Option 4 ID : 6306803674856

Q.16 If a person earns 33.33 percent profit on selling price, then what will be his profit percentage on cost price?

- Ans**
- ✗ 1. 25 percent
 - ✓ 2. 50 percent
 - ✗ 3. 100 percent
 - ✗ 4. 17.5 percent

Question ID : 630680937752
Option 1 ID : 6306803675492
Option 2 ID : 6306803675490
Option 3 ID : 6306803675489
Option 4 ID : 6306803675491

Q.17 Cycling at the speed of 8 km/hr, Rakesh covers a certain distance in 4 hours and 30 minutes. If he covers the same distance on foot in 9 hours, then what is his speed while walking?

- Ans**
- ☒ 1. 6 km/hr
 - ☒ 2. 10 km/hr
 - ☒ 3. 8 km/hr
 - ☒ 4. 4 km/hr

Question ID : 630680937563
Option 1 ID : 6306803674736
Option 2 ID : 6306803674733
Option 3 ID : 6306803674734
Option 4 ID : 6306803674735

Q.18 A can complete $\frac{3}{5}$ part of a work in 54 days. B can complete $\frac{3}{8}$ part of the same

work in 40.5 days. Which of the following statements is /are correct?

I. A is less efficient than B.

II. A and B working together can complete $11/15$ part of the same work in 54 days.

- Ans**
- ☒ 1. Only II
 - ☒ 2. Only I
 - ☒ 3. Both I and II
 - ☒ 4. Neither I nor II

Question ID : 630680937521
Option 1 ID : 6306803674566
Option 2 ID : 6306803674565
Option 3 ID : 6306803674567
Option 4 ID : 6306803674568

Q.19 Two places J1 and J2 are 620 km apart from each other. Sanju and Raman starts moving from J1 towards J2 at the same time. After reaching J2, they have to return back to J1. Speed of Sanju is 35 km/hr more than the Raman. If they meet after 8 hours, then which of the following statement(s) is/are correct?

I. Distance covered by Sanju is 860 km.

II. Speed of Raman is 60 km/hr.

- Ans**
- ☒ 1. Both I and II
 - ☒ 2. Only II
 - ☒ 3. Only I
 - ☒ 4. Neither I nor II

Question ID : 630680937804
Option 1 ID : 6306803675699
Option 2 ID : 6306803675698
Option 3 ID : 6306803675697
Option 4 ID : 6306803675700

Q.20 If the time period increases by 9 years, then simple interest increases by ₹ 3600 on a sum of ₹ 1600. What is the annual rate of interest?

- Ans**
- ☒ 1. 24 percent
 - ☒ 2. 20 percent
 - ☒ 3. 25 percent
 - ☒ 4. 22 percent

Question ID : 630680937694
Option 1 ID : 6306803675257
Option 2 ID : 6306803675260
Option 3 ID : 6306803675259
Option 4 ID : 6306803675258

Section : Test of English Language and Comprehension 1

Q.1 Fill in the blank with the correct part of speech:

I went to the library _____ study for the exam.

- Ans**
- ☒ 1. because
 - ☒ 2. in order to
 - ☒ 3. for
 - ☒ 4. but

Question ID : 630680938474
Option 1 ID : 6306803678323
Option 2 ID : 6306803678326
Option 3 ID : 6306803678324
Option 4 ID : 6306803678325

Q.2 Choose the option which is synonym of the word "generous" in the sentence given below:

The farmer had a generous harvest this year.

- Ans**
- ☒ 1. demented
 - ☒ 2. scarce
 - ☒ 3. meagre
 - ☒ 4. bountiful

Question ID : 630680938318
Option 1 ID : 6306803677750
Option 2 ID : 6306803677748
Option 3 ID : 6306803677749
Option 4 ID : 6306803677747

Q.3 Choose the option which is antonym of the word 'benevolent' in the sentence given below:

He was a benevolent king who cared for his people and their welfare.

- Ans
- ☒ 1. noble
 - ☒ 2. generous
 - ☒ 3. kind
 - ☒ 4. cruel

Question ID : 630680938319
Option 1 ID : 6306803677753
Option 2 ID : 6306803677752
Option 3 ID : 6306803677754
Option 4 ID : 6306803677751

Q.4 Fill in the blank with correct part of speech:

He is a very _____ person, he rarely goes out and doesn't like talking to people.

- Ans
- ☒ 1. introverted
 - ☒ 2. extroverted
 - ☒ 3. Retarded
 - ☒ 4. Smart

Question ID : 630680938392
Option 1 ID : 6306803678019
Option 2 ID : 6306803678020
Option 3 ID : 6306803678021
Option 4 ID : 6306803678022

Q.5 Select the word segment that substitutes (replaces) the bracketed idiom correctly and completes the sentence meaningfully.

She (cut corners) to save money on the renovation project.

- Ans
- ☒ 1. increased the budget
 - ☒ 2. used scissors
 - ☒ 3. reduced quality
 - ☒ 4. Bargained

Question ID : 630680938528
Option 1 ID : 6306803678528
Option 2 ID : 6306803678527
Option 3 ID : 6306803678530
Option 4 ID : 6306803678529

Q.6 Rearrange the following sentences to form a coherent paragraph and choose the correct sequence from the options given below:

- A. He initiated World War II in Europe by invading Poland on 1 September 1939 and was central to the Holocaust, the genocide of about six million Jews and millions of other victims.
B. Adolf Hitler was a German politician and leader of the Nazi Party, officially known as the National Socialist German Workers' Party.
C. He rose to power as the chancellor of Germany in 1933 and then as Führer in 1934. During this period, he abolished democracy, espoused a form of fascism, and pursued a foreign policy aimed at creating a "Greater German Reich".
D. He committed suicide in his Berlin bunker on 30 April 1945, after the Red Army captured the city.

- Ans ☒ 1. DBCA
☒ 2. ABCD
☒ 3. BCAD
☒ 4. CBAD

Question ID : 630680938310
Option 1 ID : 6306803677718
Option 2 ID : 6306803677715
Option 3 ID : 6306803677716
Option 4 ID : 6306803677717

Q.7 Choose the option which is synonym of the word "genuine" in the sentence given below:

He was a genuine friend who always supported me.

- Ans ☒ 1. deceptive
☒ 2. sincere
☒ 3. dishonest
☒ 4. questionable

Question ID : 630680938406
Option 1 ID : 6306803678078
Option 2 ID : 6306803678076
Option 3 ID : 6306803678077
Option 4 ID : 6306803678075

Q.8 Choose the correct one-word substitution for the sentence/phrase given below:

an institution to which young offenders are sent as an alternative to prison

- Ans ☒ 1. convent
☒ 2. reformatory
☒ 3. monastery
☒ 4. jail

Question ID : 630680938570
Option 1 ID : 6306803678684
Option 2 ID : 6306803678685
Option 3 ID : 6306803678683
Option 4 ID : 6306803678686

Q.9 Fill in the blank with the appropriate article:

He bought some _____ oranges from the supermarket.

- Ans
- ☒ 1. a
 - ☒ 2. the
 - ☒ 3. an
 - ☒ 4. no article

Question ID : 630680938471
Option 1 ID : 6306803678311
Option 2 ID : 6306803678313
Option 3 ID : 6306803678312
Option 4 ID : 6306803678314

Q.10 Fill in the blank with the appropriate article:

She works for _____ United Nations.

- Ans
- ☒ 1. a
 - ☒ 2. no article
 - ☒ 3. the
 - ☒ 4. an

Question ID : 630680938519
Option 1 ID : 6306803678491
Option 2 ID : 6306803678494
Option 3 ID : 6306803678493
Option 4 ID : 6306803678492

Q.11 Fill in the blank with the correct adverb.

_____ he opened the door and peeked inside.

- Ans
- ☒ 1. noiseless
 - ☒ 2. noiselessness
 - ☒ 3. unnoisingly
 - ☒ 4. noiselessly

Question ID : 630680938560
Option 1 ID : 6306803678644
Option 2 ID : 6306803678645
Option 3 ID : 6306803678646
Option 4 ID : 6306803678643

Q.12 Choose the correct one-word substitution for the sentence/phrase given below:

An act of renouncing the throne

- Ans ☒ 1. Allegory
☒ 2. Abdication
☒ 3. Almanac
☒ 4. Axiom

Question ID : 630680938311
 Option 1 ID : 6306803677721
 Option 2 ID : 6306803677719
 Option 3 ID : 6306803677720
 Option 4 ID : 6306803677722

Q.13 Rearrange the following sentences to form a coherent paragraph and choose the correct sequence from the options given below:

- A. Thus, they are essential for maintaining the balance of ecosystems and biodiversity.
 B. Bees are pollinators that transfer pollen from one flower to another, enabling the reproduction of plants.
 C. However, they are facing many threats, such as pesticides, parasites, and habitat loss.
 D. Therefore, they need protection and conservation, as their decline would have serious consequences for agriculture and the environment.

- Ans ☒ 1. CDBA
☒ 2. BACD
☒ 3. DCAB
☒ 4. ABDC

Question ID : 630680938438
 Option 1 ID : 6306803678192
 Option 2 ID : 6306803678191
 Option 3 ID : 6306803678193
 Option 4 ID : 6306803678194

Q.14 Select the word segment that substitutes (replaces) the bracketed idiom correctly and completes the sentence meaningfully.

He (burned the midnight oil) to finish his assignment on time.

- Ans ☒ 1. worked very hard
☒ 2. wasted a lot of time
☒ 3. lit a candle
☒ 4. stayed up very late

Question ID : 630680938399
 Option 1 ID : 6306803678047
 Option 2 ID : 6306803678049
 Option 3 ID : 6306803678050
 Option 4 ID : 6306803678048

Q.15 Fill in the blank with the correct preposition:

He was born _____ January.

- Ans
- ☒ 1. on
 - ☒ 2. at
 - ☒ 3. by
 - ☒ 4. in

Question ID : 630680938432
Option 1 ID : 6306803678168
Option 2 ID : 6306803678169
Option 3 ID : 6306803678170
Option 4 ID : 6306803678167

Q.16 Fill in the blank with the correct article:

She works as _____ nurse.

- Ans
- ☒ 1. No article
 - ☒ 2. the
 - ☒ 3. an
 - ☒ 4. a

Question ID : 630680938343
Option 1 ID : 6306803677838
Option 2 ID : 6306803677836
Option 3 ID : 6306803677837
Option 4 ID : 6306803677835

Q.17 Select the word segment that substitutes (replaces) the bracketed proverb correctly and completes the sentence meaningfully.

She (cut corners) to save money on the project.

- Ans
- ☒ 1. reduced the quality
 - ☒ 2. followed the rules
 - ☒ 3. increased the efficiency
 - ☒ 4. changed the design

Question ID : 630680938400
Option 1 ID : 6306803678051
Option 2 ID : 6306803678054
Option 3 ID : 6306803678052
Option 4 ID : 6306803678053

Q.18 Fill in the blank with correct part of speech:

He finished _____ in the race.

- Ans
- ☒ 1. one
 - ☒ 2. once
 - ☒ 3. first
 - ☒ 4. one's

Question ID : 630680938387
Option 1 ID : 6306803677999
Option 2 ID : 6306803678001
Option 3 ID : 6306803678000
Option 4 ID : 6306803678002

Q.19 Fill in the blank with the correct article:

She gave him _____ book and he gave her _____ flower.

- Ans
- ☒ 1. a, a
 - ☒ 2. an, an
 - ☒ 3. a, an
 - ☒ 4. an, a

Question ID : 630680938386
Option 1 ID : 6306803677995
Option 2 ID : 6306803677998
Option 3 ID : 6306803677996
Option 4 ID : 6306803677997

Q.20 Fill in the blank with the correct part of speech:

She went to the library _____ borrow some books.

- Ans
- ☒ 1. therefore
 - ☒ 2. in order to
 - ☒ 3. so that
 - ☒ 4. because

Question ID : 630680938393
Option 1 ID : 6306803678026
Option 2 ID : 6306803678025
Option 3 ID : 6306803678024
Option 4 ID : 6306803678023

Q.1 Choose the most appropriate meaning of the idiom given below:

Up for grabs

- Ans
- ☒ 1. The complete or full extent of something
 - ☒ 2. Available for anyone to take or win
 - ☒ 3. Help each other mutually
 - ☒ 4. A point in the distance where something disappears from view

Question ID : 630680938401
Option 1 ID : 6306803678057
Option 2 ID : 6306803678055
Option 3 ID : 6306803678058
Option 4 ID : 6306803678056

Q.2 The sentence given below is divided in to three segment. Choose the segment which has a spelling error. If there are no errors, choose No error option.

The restaurant offered/ a plethora of culinary/ delacacies.

- Ans
- ☒ 1. The restaurant offered
 - ☒ 2. No error
 - ☒ 3. delacacies
 - ☒ 4. a plethora of culinary

Question ID : 630680938452
Option 1 ID : 6306803678247
Option 2 ID : 6306803678250
Option 3 ID : 6306803678249
Option 4 ID : 6306803678248

Q.3 The sentence given below is divided into three segments. Choose the segment which has a spelling error. If there are no errors, choose No error option.

He was very reluctant to/ share his secrets with/ anyone, even his best friend.

- Ans
- ☒ 1. share his secrets with
 - ☒ 2. No error
 - ☒ 3. He was very reluctant to
 - ☒ 4. anyone, even his best friend.

Question ID : 630680938323
Option 1 ID : 6306803677768
Option 2 ID : 6306803677770
Option 3 ID : 6306803677767
Option 4 ID : 6306803677769

Q.4 Which word is a homonym of heir?

- Ans
- ☒ 1. here
 - ☒ 2. air
 - ☒ 3. hare
 - ☒ 4. hire

Question ID : 630680938623
Option 1 ID : 6306803678885
Option 2 ID : 6306803678884
Option 3 ID : 6306803678883
Option 4 ID : 6306803678886

Q.5 Which word is a homonym of write?

- Ans
- ☒ 1. Written
 - ☒ 2. Right
 - ☒ 3. Wrought
 - ☒ 4. Bright

Question ID : 630680938580
Option 1 ID : 6306803678726
Option 2 ID : 6306803678723
Option 3 ID : 6306803678725
Option 4 ID : 6306803678724



Comprehension:

A passage is given with 5 blanks in it. Read the passage carefully and choose the best answer to each question out of the four alternatives:

The Mahabharata, an ancient Indian epic, is a narrative that (1) _____ the profound tales of righteousness, conflict, and divine intervention. Composed by the sage Vyasa, the Mahabharata is a sprawling epic that holds a prominent place in Hindu mythology. (2) _____ over thousands of verses, the Mahabharata centres around the Kuru dynasty and the intense rivalry between the Pandavas and the Kauravas. The epic explores themes of dharma (duty/righteousness), karma (action), and the consequences of war. One of the pivotal sections of the Mahabharata is the Bhagavad Gita, a sacred dialogue between Lord Krishna and the warrior, Arjuna. In this philosophical discourse, Krishna imparts profound wisdom on the nature of existence, duty, and devotion. The Mahabharata is not merely a (3) _____ tale but a reservoir of moral and ethical teachings. It delves into complex characters like Bhishma, Karna, and Draupadi, presenting a tapestry of virtues and flaws. The great war of Kurukshetra, a climactic event in the Mahabharata, serves as a metaphorical battleground where the forces of righteousness confront the forces of (4) _____. The intricate narrative weaves together intricate subplots, divine interventions, and powerful moral lessons. Even today, the Mahabharata continues to (5) _____ readers and scholars alike, serving as a timeless source of inspiration and philosophical contemplation.

SubQuestion No : 6

Q.6 Select the most appropriate option to fill in blank number (1).

- Ans ☒ 1. Confuses
☒ 2. Elucidates
☒ 3. Conceals
☒ 4. Obscures

Question ID : 630680938497
 Option 1 ID : 6306803678414
 Option 2 ID : 6306803678411
 Option 3 ID : 6306803678413
 Option 4 ID : 6306803678412

Comprehension:

A passage is given with 5 blanks in it. Read the passage carefully and choose the best answer to each question out of the four alternatives:

The Mahabharata, an ancient Indian epic, is a narrative that (1) _____ the profound tales of righteousness, conflict, and divine intervention. Composed by the sage Vyasa, the Mahabharata is a sprawling epic that holds a prominent place in Hindu mythology. (2) _____ over thousands of verses, the Mahabharata centres around the Kuru dynasty and the intense rivalry between the Pandavas and the Kauravas. The epic explores themes of dharma (duty/righteousness), karma (action), and the consequences of war. One of the pivotal sections of the Mahabharata is the Bhagavad Gita, a sacred dialogue between Lord Krishna and the warrior, Arjuna. In this philosophical discourse, Krishna imparts profound wisdom on the nature of existence, duty, and devotion. The Mahabharata is not merely a (3) _____ tale but a reservoir of moral and ethical teachings. It delves into complex characters like Bhishma, Karna, and Draupadi, presenting a tapestry of virtues and flaws. The great war of Kurukshetra, a climactic event in the Mahabharata, serves as a metaphorical battleground where the forces of righteousness confront the forces of (4) _____. The intricate narrative weaves together intricate subplots, divine interventions, and powerful moral lessons. Even today, the Mahabharata continues to (5) _____ readers and scholars alike, serving as a timeless source of inspiration and philosophical contemplation.

SubQuestion No : 7

Q.7 Select the most appropriate option to fill in blank number (2).

- Ans ☒ 1. Extending
- ☐ 2. Comprising
- ☐ 3. Scattered
- ☐ 4. Contracting

Question ID : 630680938498
Option 1 ID : 6306803678418
Option 2 ID : 6306803678415
Option 3 ID : 6306803678416
Option 4 ID : 6306803678417

Comprehension:

A passage is given with 5 blanks in it. Read the passage carefully and choose the best answer to each question out of the four alternatives:

The Mahabharata, an ancient Indian epic, is a narrative that (1) _____ the profound tales of righteousness, conflict, and divine intervention. Composed by the sage Vyasa, the Mahabharata is a sprawling epic that holds a prominent place in Hindu mythology. (2) _____ over thousands of verses, the Mahabharata centres around the Kuru dynasty and the intense rivalry between the Pandavas and the Kauravas. The epic explores themes of dharma (duty/righteousness), karma (action), and the consequences of war. One of the pivotal sections of the Mahabharata is the Bhagavad Gita, a sacred dialogue between Lord Krishna and the warrior, Arjuna. In this philosophical discourse, Krishna imparts profound wisdom on the nature of existence, duty, and devotion. The Mahabharata is not merely a (3) _____ tale but a reservoir of moral and ethical teachings. It delves into complex characters like Bhishma, Karna, and Draupadi, presenting a tapestry of virtues and flaws. The great war of Kurukshetra, a climactic event in the Mahabharata, serves as a metaphorical battleground where the forces of righteousness confront the forces of (4) _____. The intricate narrative weaves together intricate subplots, divine interventions, and powerful moral lessons. Even today, the Mahabharata continues to (5) _____ readers and scholars alike, serving as a timeless source of inspiration and philosophical contemplation.

SubQuestion No : 8

Q.8 Select the most appropriate option to fill in blank number (3).

- Ans

✗

1. Fictional

✓

2. Historical

✗

3. Mundane

✗

4. Literal

Question ID : 630680938499

Option 1 ID : 6306803678419

Option 2 ID : 6306803678420

Option 3 ID : 6306803678421

Option 4 ID : 6306803678422

Comprehension:

A passage is given with 5 blanks in it. Read the passage carefully and choose the best answer to each question out of the four alternatives:

The Mahabharata, an ancient Indian epic, is a narrative that (1) _____ the profound tales of righteousness, conflict, and divine intervention. Composed by the sage Vyasa, the Mahabharata is a sprawling epic that holds a prominent place in Hindu mythology. (2) _____ over thousands of verses, the Mahabharata centres around the Kuru dynasty and the intense rivalry between the Pandavas and the Kauravas. The epic explores themes of dharma (duty/righteousness), karma (action), and the consequences of war. One of the pivotal sections of the Mahabharata is the Bhagavad Gita, a sacred dialogue between Lord Krishna and the warrior, Arjuna. In this philosophical discourse, Krishna imparts profound wisdom on the nature of existence, duty, and devotion. The Mahabharata is not merely a (3) _____ tale but a reservoir of moral and ethical teachings. It delves into complex characters like Bhishma, Karna, and Draupadi, presenting a tapestry of virtues and flaws. The great war of Kurukshetra, a climactic event in the Mahabharata, serves as a metaphorical battleground where the forces of righteousness confront the forces of (4) _____. The intricate narrative weaves together intricate subplots, divine interventions, and powerful moral lessons. Even today, the Mahabharata continues to (5) _____ readers and scholars alike, serving as a timeless source of inspiration and philosophical contemplation.

SubQuestion No : 9

Q.9 Select the most appropriate option to fill in blank number (4).

- Ans ☒ 1. Chaos
☒ 2. Adharma
☒ 3. Harmony
☒ 4. Disarray

Question ID : 630680938500
 Option 1 ID : 6306803678426
 Option 2 ID : 6306803678423
 Option 3 ID : 6306803678424
 Option 4 ID : 6306803678425

Comprehension:

A passage is given with 5 blanks in it. Read the passage carefully and choose the best answer to each question out of the four alternatives:

The Mahabharata, an ancient Indian epic, is a narrative that (1) _____ the profound tales of righteousness, conflict, and divine intervention. Composed by the sage Vyasa, the Mahabharata is a sprawling epic that holds a prominent place in Hindu mythology. (2) _____ over thousands of verses, the Mahabharata centres around the Kuru dynasty and the intense rivalry between the Pandavas and the Kauravas. The epic explores themes of dharma (duty/righteousness), karma (action), and the consequences of war. One of the pivotal sections of the Mahabharata is the Bhagavad Gita, a sacred dialogue between Lord Krishna and the warrior, Arjuna. In this philosophical discourse, Krishna imparts profound wisdom on the nature of existence, duty, and devotion. The Mahabharata is not merely a (3) _____ tale but a reservoir of moral and ethical teachings. It delves into complex characters like Bhishma, Karna, and Draupadi, presenting a tapestry of virtues and flaws. The great war of Kurukshetra, a climactic event in the Mahabharata, serves as a metaphorical battleground where the forces of righteousness confront the forces of (4) _____. The intricate narrative weaves together intricate subplots, divine interventions, and powerful moral lessons. Even today, the Mahabharata continues to (5) _____ readers and scholars alike, serving as a timeless source of inspiration and philosophical contemplation.

SubQuestion No : 10

Q.10 Select the most appropriate option to fill in blank number (5).

- Ans ☒ 1. Enrage
☒ 2. Allure
☒ 3. Befuddle
☒ 4. Capitulate

Question ID : 630680938501
Option 1 ID : 6306803678428
Option 2 ID : 6306803678429
Option 3 ID : 6306803678427
Option 4 ID : 6306803678430

Comprehension:

A passage is given with 5 questions following it. Read the passage carefully and choose the best answer to each question out of the four alternatives:

Crocs, the iconic footwear brand, has revolutionized comfort and style with its distinctive clog design. Characterized by their lightweight construction, ventilated ports, and signature crocodile logo, Crocs have become a global phenomenon. Originally designed as boating shoes, they have transcended their utilitarian roots to become a fashion statement. Adored for their versatility, Crocs are not limited to any age group or gender, making them a favourite among children, adults, and celebrities alike. The brand's vibrant colour palette adds a playful touch to casual wear, while the comfort provided by the unique Croslite foam material ensures all-day ease.

Beyond fashion, Crocs have also found their place in healthcare and culinary professions, thanks to their slip-resistant and easy-to-clean properties. The brand's commitment to sustainability is evident in their eco-friendly initiatives, creating a positive impact on both fashion and the environment.


In a world where footwear choices abound, Crocs stand out for their blend of comfort, functionality, and unmistakable style—a testament to the enduring popularity of these distinctive shoes.

SubQuestion No : 11

Q.11 What is the central theme of the passage?

- Ans
- ☒ 1. How unexpected and underving is the success of Crocs
 - ☒ 2. How Crocs are now the fashion brand everyone aspires for
 - ☒ 3. How Crocs has revolutionised footwear
 - ☒ 4. The rise and fall of Crocs

Question ID : 630680938461
Option 1 ID : 6306803678276
Option 2 ID : 6306803678278
Option 3 ID : 6306803678277
Option 4 ID : 6306803678275



Comprehension:

A passage is given with 5 questions following it. Read the passage carefully and choose the best answer to each question out of the four alternatives:

Crocs, the iconic footwear brand, has revolutionized comfort and style with its distinctive clog design. Characterized by their lightweight construction, ventilated ports, and signature crocodile logo, Crocs have become a global phenomenon. Originally designed as boating shoes, they have transcended their utilitarian roots to become a fashion statement. Adored for their versatility, Crocs are not limited to any age group or gender, making them a favourite among children, adults, and celebrities alike. The brand's vibrant colour palette adds a playful touch to casual wear, while the comfort provided by the unique Croslite foam material ensures all-day ease. Beyond fashion, Crocs have also found their place in healthcare and culinary professions, thanks to their slip-resistant and easy-to-clean properties. The brand's commitment to sustainability is evident in their eco-friendly initiatives, creating a positive impact on both fashion and the environment. In a world where footwear choices abound, Crocs stand out for their blend of comfort, functionality, and unmistakable style—a testament to the enduring popularity of these distinctive shoes.

SubQuestion No : 12

Q.12 How is the passage structured?

- Ans
- ☒ 1. Cause - Effect - Implication
 - ☒ 2. Introduction - Body - Conclusion
 - ☒ 3. Problem - Solution - Evaluation
 - ☒ 4. Comparison - Contrast - Synthesis

Question ID : 630680938464
 Option 1 ID : 6306803678289
 Option 2 ID : 6306803678287
 Option 3 ID : 6306803678288
 Option 4 ID : 6306803678290

Comprehension:

A passage is given with 5 questions following it. Read the passage carefully and choose the best answer to each question out of the four alternatives:

Crocs, the iconic footwear brand, has revolutionized comfort and style with its distinctive clog design. Characterized by their lightweight construction, ventilated ports, and signature crocodile logo, Crocs have become a global phenomenon. Originally designed as boating shoes, they have transcended their utilitarian roots to become a fashion statement. Adored for their versatility, Crocs are not limited to any age group or gender, making them a favourite among children, adults, and celebrities alike. The brand's vibrant colour palette adds a playful touch to casual wear, while the comfort provided by the unique Croslite foam material ensures all-day ease.

Beyond fashion, Crocs have also found their place in healthcare and culinary professions, thanks to their slip-resistant and easy-to-clean properties. The brand's commitment to sustainability is evident in their eco-friendly initiatives, creating a positive impact on both fashion and the environment.

In a world where footwear choices abound, Crocs stand out for their blend of comfort, functionality, and unmistakable style—a testament to the enduring popularity of these distinctive shoes.

SubQuestion No : 13

Q.13 Which of the following can be inferred from the passage?

- Ans ☒ 1. Crocs are eco-friendly
- ☐ 2. Crocs are made of recycled materials
- ☐ 3. Crocs are designed for boating only
- ☐ 4. Crocs are only available in one colour

Question ID : 630680938462
Option 1 ID : 6306803678282
Option 2 ID : 6306803678281
Option 3 ID : 6306803678280
Option 4 ID : 6306803678279

Comprehension:

A passage is given with 5 questions following it. Read the passage carefully and choose the best answer to each question out of the four alternatives:

Crocs, the iconic footwear brand, has revolutionized comfort and style with its distinctive clog design. Characterized by their lightweight construction, ventilated ports, and signature crocodile logo, Crocs have become a global phenomenon. Originally designed as boating shoes, they have transcended their utilitarian roots to become a fashion statement. Adored for their versatility, Crocs are not limited to any age group or gender, making them a favourite among children, adults, and celebrities alike. The brand's vibrant colour palette adds a playful touch to casual wear, while the comfort provided by the unique Croslite foam material ensures all-day ease.

Beyond fashion, Crocs have also found their place in healthcare and culinary professions, thanks to their slip-resistant and easy-to-clean properties. The brand's commitment to sustainability is evident in their eco-friendly initiatives, creating a positive impact on both fashion and the environment.

In a world where footwear choices abound, Crocs stand out for their blend of comfort, functionality, and unmistakable style—a testament to the enduring popularity of these distinctive shoes.

SubQuestion No : 14

Q.14 What is the tone of the passage?

- Ans
- ☒ 1. Persuasive
 - ☒ 2. Informative
 - ☒ 3. Humorous
 - ☒ 4. Critical

Question ID : 630680938460
Option 1 ID : 6306803678273
Option 2 ID : 6306803678272
Option 3 ID : 6306803678274
Option 4 ID : 6306803678271

Comprehension:

A passage is given with 5 questions following it. Read the passage carefully and choose the best answer to each question out of the four alternatives:

Crocs, the iconic footwear brand, has revolutionized comfort and style with its distinctive clog design. Characterized by their lightweight construction, ventilated ports, and signature crocodile logo, Crocs have become a global phenomenon. Originally designed as boating shoes, they have transcended their utilitarian roots to become a fashion statement. Adored for their versatility, Crocs are not limited to any age group or gender, making them a favourite among children, adults, and celebrities alike. The brand's vibrant colour palette adds a playful touch to casual wear, while the comfort provided by the unique Croslite foam material ensures all-day ease.

Beyond fashion, Crocs have also found their place in healthcare and culinary professions, thanks to their slip-resistant and easy-to-clean properties. The brand's commitment to sustainability is evident in their eco-friendly initiatives, creating a positive impact on both fashion and the environment.

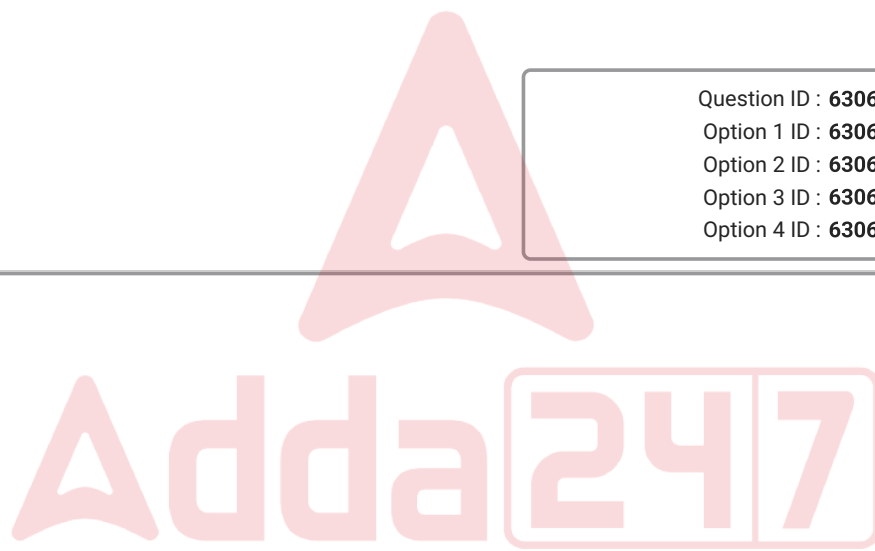
In a world where footwear choices abound, Crocs stand out for their blend of comfort, functionality, and unmistakable style—a testament to the enduring popularity of these distinctive shoes.

SubQuestion No : 15

Q.15 What is the antonym of the word “utilitarian” as used in the passage?

- Ans
- ☒ 1. Versatile
 - ☒ 2. Playful
 - ☒ 3. Comfortable
 - ☒ 4. Stylish

Question ID : 630680938463
Option 1 ID : 6306803678285
Option 2 ID : 6306803678284
Option 3 ID : 6306803678286
Option 4 ID : 6306803678283



Comprehension:

A passage is given with 5 questions following it. Read the passage carefully and choose the best answer to each question out of the four alternatives:

Deforestation, the widespread removal of forests for various purposes, significantly contributes to climate change. Trees play a crucial role in regulating the Earth's climate by absorbing carbon dioxide during photosynthesis. When forests are cleared, this natural carbon sink is disrupted, leading to increased levels of greenhouse gases in the atmosphere. The released carbon dioxide intensifies the greenhouse effect, trapping heat and raising global temperatures.

Moreover, deforestation disrupts the water cycle, affecting precipitation patterns and contributing to extreme weather events like floods and droughts. Loss of biodiversity is another consequence, as many species depend on forests for habitat and sustenance. The intricate balance of ecosystems is disturbed, impacting not only the environment but also communities that rely on forests for their livelihoods.

Addressing deforestation is imperative for mitigating climate change and preserving the delicate equilibrium of our planet. Sustainable forestry practices, reforestation initiatives, and global cooperation are essential steps toward mitigating the adverse impacts of deforestation and fostering a more resilient and balanced environment.

SubQuestion No : 16

Q.16 What is the consequence of deforestation on biodiversity?

- Ans
- ☒ 1. No effect on biodiversity
 - ☒ 2. Loss of biodiversity
 - ☒ 3. Increase of biodiversity
 - ☒ 4. Variation of biodiversity

Question ID : 630680938425
Option 1 ID : 6306803678141
Option 2 ID : 6306803678139
Option 3 ID : 6306803678140
Option 4 ID : 6306803678142

Comprehension:

A passage is given with 5 questions following it. Read the passage carefully and choose the best answer to each question out of the four alternatives:

Deforestation, the widespread removal of forests for various purposes, significantly contributes to climate change. Trees play a crucial role in regulating the Earth's climate by absorbing carbon dioxide during photosynthesis. When forests are cleared, this natural carbon sink is disrupted, leading to increased levels of greenhouse gases in the atmosphere. The released carbon dioxide intensifies the greenhouse effect, trapping heat and raising global temperatures.

Moreover, deforestation disrupts the water cycle, affecting precipitation patterns and contributing to extreme weather events like floods and droughts. Loss of biodiversity is another consequence, as many species depend on forests for habitat and sustenance. The intricate balance of ecosystems is disturbed, impacting not only the environment but also communities that rely on forests for their livelihoods.

Addressing deforestation is imperative for mitigating climate change and preserving the delicate equilibrium of our planet. Sustainable forestry practices, reforestation initiatives, and global cooperation are essential steps toward mitigating the adverse impacts of deforestation and fostering a more resilient and balanced environment.

SubQuestion No : 17

Q.17 What is the main purpose of deforestation according to the passage?

- Ans
- ☒ 1. To reduce the carbon dioxide
 - ☒ 2. To improve the rainfall
 - ☒ 3. To protect the wildlife
 - ☒ 4. To increase the land area

Question ID : 630680938423
Option 1 ID : 6306803678132
Option 2 ID : 6306803678134
Option 3 ID : 6306803678133
Option 4 ID : 6306803678131

Comprehension:

A passage is given with 5 questions following it. Read the passage carefully and choose the best answer to each question out of the four alternatives:

Deforestation, the widespread removal of forests for various purposes, significantly contributes to climate change. Trees play a crucial role in regulating the Earth's climate by absorbing carbon dioxide during photosynthesis. When forests are cleared, this natural carbon sink is disrupted, leading to increased levels of greenhouse gases in the atmosphere. The released carbon dioxide intensifies the greenhouse effect, trapping heat and raising global temperatures.

Moreover, deforestation disrupts the water cycle, affecting precipitation patterns and contributing to extreme weather events like floods and droughts. Loss of biodiversity is another consequence, as many species depend on forests for habitat and sustenance. The intricate balance of ecosystems is disturbed, impacting not only the environment but also communities that rely on forests for their livelihoods.

Addressing deforestation is imperative for mitigating climate change and preserving the delicate equilibrium of our planet. Sustainable forestry practices, reforestation initiatives, and global cooperation are essential steps toward mitigating the adverse impacts of deforestation and fostering a more resilient and balanced environment.

SubQuestion No : 18

Q.18 What are the two natural processes that are disrupted by deforestation?

- Ans
- ☒ 1. Nitrogen cycle and oxygen cycle
 - ☒ 2. Photosynthesis and respiration
 - ☒ 3. Water cycle and carbon cycle
 - ☒ 4. Food chain and food web

Question ID : 630680938424

Option 1 ID : 6306803678137

Option 2 ID : 6306803678135

Option 3 ID : 6306803678136

Option 4 ID : 6306803678138

Comprehension:

A passage is given with 5 questions following it. Read the passage carefully and choose the best answer to each question out of the four alternatives:

Deforestation, the widespread removal of forests for various purposes, significantly contributes to climate change. Trees play a crucial role in regulating the Earth's climate by absorbing carbon dioxide during photosynthesis. When forests are cleared, this natural carbon sink is disrupted, leading to increased levels of greenhouse gases in the atmosphere. The released carbon dioxide intensifies the greenhouse effect, trapping heat and raising global temperatures.

Moreover, deforestation disrupts the water cycle, affecting precipitation patterns and contributing to extreme weather events like floods and droughts. Loss of biodiversity is another consequence, as many species depend on forests for habitat and sustenance. The intricate balance of ecosystems is disturbed, impacting not only the environment but also communities that rely on forests for their livelihoods.

Addressing deforestation is imperative for mitigating climate change and preserving the delicate equilibrium of our planet. Sustainable forestry practices, reforestation initiatives, and global cooperation are essential steps toward mitigating the adverse impacts of deforestation and fostering a more resilient and balanced environment.

SubQuestion No : 19

Q.19 What is the synonym of the word "imperative" as used in the passage?

Ans ☒ 1. Essential

☐ 2. Possible

☐ 3. Optional

☐ 4. Flexible

Question ID : 630680938426

Option 1 ID : 6306803678144

Option 2 ID : 6306803678145

Option 3 ID : 6306803678143

Option 4 ID : 6306803678146

Comprehension:

A passage is given with 5 questions following it. Read the passage carefully and choose the best answer to each question out of the four alternatives:

Deforestation, the widespread removal of forests for various purposes, significantly contributes to climate change. Trees play a crucial role in regulating the Earth's climate by absorbing carbon dioxide during photosynthesis. When forests are cleared, this natural carbon sink is disrupted, leading to increased levels of greenhouse gases in the atmosphere. The released carbon dioxide intensifies the greenhouse effect, trapping heat and raising global temperatures.

Moreover, deforestation disrupts the water cycle, affecting precipitation patterns and contributing to extreme weather events like floods and droughts. Loss of biodiversity is another consequence, as many species depend on forests for habitat and sustenance. The intricate balance of ecosystems is disturbed, impacting not only the environment but also communities that rely on forests for their livelihoods.

Addressing deforestation is imperative for mitigating climate change and preserving the delicate equilibrium of our planet. Sustainable forestry practices, reforestation initiatives, and global cooperation are essential steps toward mitigating the adverse impacts of deforestation and fostering a more resilient and balanced environment.

SubQuestion No : 20

Q.20 How can deforestation not be addressed according to the passage?

- Ans
- ☒ 1. Sustainable forestry practices, reforestation initiatives, and global cooperation
 - ☒ 2. Mass awareness, afforestation, and preservation of wildlife
 - ☒ 3. Encouraging cutting down trees in the south west to save the amazon rainforest.
 - ☒ 4. Reforestation is an effective practice to address deforestation.

Question ID : 630680938427
Option 1 ID : 6306803678147
Option 2 ID : 6306803678148
Option 3 ID : 6306803678149
Option 4 ID : 6306803678150

Section : Test of Hindi Language and Comprehension 1

Q.1 निम्नलिखित चार विकल्पों में से, उस विकल्प का चयन करें जो दी गई लोकोक्ति का उचित अर्थ है।

बिच्छू का मंतर न जाने, साँप के बिल में हाथ डाले

- Ans
- ☒ 1. जरूरत के अनुसार ही सामान बनाना
 - ☒ 2. बिना प्रमाण के कोई काम करना
 - ☒ 3. अपनी स्थिति समझे बिना किसी से कम बोलना
 - ☒ 4. अनाड़ी होने पर भी बड़े काम को करने का साहस करना

Question ID : 630680938908
Option 1 ID : 6306803679981
Option 2 ID : 6306803679982
Option 3 ID : 6306803679979
Option 4 ID : 6306803679980

Q.2 निम्नलिखित प्रश्न में, चार विकल्पों में से, उस विकल्प का चयन करें जो कोष्ठक में दिए गए शब्द के अनुसार सही क्रिया विशेषण के रूप वाला विकल्प है।

सभी बच्चे (ध्यानपूर्वक) पढ़ाई करते हैं।

- Ans
- ☒ 1. स्थानवाचक क्रियाविशेषण
 - ☒ 2. कालवाचक क्रियाविशेषण
 - ☒ 3. रीतिवाचक क्रियाविशेषण
 - ☒ 4. परिमाणवाचक क्रियाविशेषण

Question ID : 630680938777
Option 1 ID : 6306803679481
Option 2 ID : 6306803679480
Option 3 ID : 6306803679479
Option 4 ID : 6306803679482

Q.3 निम्नलिखित प्रश्न में, चार विकल्पों में से, उस विकल्प का चयन करें जो दी गई लोकोक्ति का सही अर्थ वाला विकल्प है।

साँच को आँच नहीं

- Ans
- ☒ 1. मन शुद्ध है तो सब ठीक है
 - ☒ 2. सच्चे को डरने की आवश्यकता नहीं
 - ☒ 3. दुष्ट व्यक्ति दंड से ही भयभीत होते हैं
 - ☒ 4. काम भी बन जाए और हानि भी न हो

Question ID : 630680938989
Option 1 ID : 6306803680289
Option 2 ID : 6306803680290
Option 3 ID : 6306803680288
Option 4 ID : 6306803680287

Q.4 निम्नलिखित विकल्पों में से, उस विकल्प का चयन करें जो दिए गए अनुच्छेद के अंतिम वाक्य को उचित प्रकार से प्रतिस्थापित कर सके -

‘ग्लोबल वार्मिंग के कारण मौसम में कई बदलाव आते हैं। जिनमें लंबी गर्मी और कम सर्दी, अधिक तापमान, व्यापारिक हवाओं में बदलाव आदि शामिल हैं। इसके परिणामस्वरूप प्राकृतिक आपदाओं में वृद्धि हो सकती है।’

- Ans
- ☒ 1. जिनमें गंभीर तूफान, चक्रवात, बाढ़ के आलावा कई अन्य आपदाएं शामिल होने की संभावना नहीं है।
 - ☒ 2. इसके परिणामस्वरूप तूफान, चक्रवात, बाढ़ और कई अन्य आपदाओं में वृद्धि हो सकती है
 - ☒ 3. जिनमें गंभीर तूफान, चक्रवात, बाढ़ और कई अन्य आपदाएं शामिल नहीं हैं।
 - ☒ 4. जिनमें धीमा तूफान, अच्छा मौसम और कई अन्य आपदाएं शामिल हैं।

Question ID : 630680938804
Option 1 ID : 6306803679585
Option 2 ID : 6306803679586
Option 3 ID : 6306803679583
Option 4 ID : 6306803679584

Q.5 निम्नलिखित वाक्यांश के लिए एक शब्द का चयन कीजिए-

लोगों में परंपरा से चली आई कथा

- Ans
- ☒ 1. दैवज्ञ
 - ☒ 2. दंतकथा
 - ☒ 3. दकियानूस
 - ☒ 4. दरीचा

Question ID : 630680938899
Option 1 ID : 6306803679945
Option 2 ID : 6306803679946
Option 3 ID : 6306803679943
Option 4 ID : 6306803679944

Q.6 निम्नलिखित प्रश्न में, चार विकल्पों में से, उस विकल्प का चयन करें जो दिए गए मुहावरे का सही अर्थ वाला विकल्प है।

कलेजा मुँह को आना

- Ans
- ☒ 1. व्यर्थ ही कुछ लिखना
 - ☒ 2. धैर्य धारण करना
 - ☒ 3. अत्यधिक व्याकुल होना
 - ☒ 4. सर्वस्व दे देना

Question ID : 630680938992
Option 1 ID : 6306803680302
Option 2 ID : 6306803680301
Option 3 ID : 6306803680300
Option 4 ID : 6306803680299

Q.7 निम्नलिखित विकल्पों में से कौन सा विकल्प एक सुसंगत वाक्य बनाने के लिए वाक्यांशों को सही ढंग से व्यवस्थित करता है?

- A- और जीवन के प्रत्येक चरण में एक-दूसरे का
- B- समर्थन करते हैं तो कोई भी बाहरी व्यक्ति
- C- परिवार को नुकसान नहीं पहुंचा सकता है
- D- यदि परिवार के सदस्य एक साथ रहते हैं

- Ans
- ☒ 1. DABC
 - ☒ 2. CABD
 - ☒ 3. CBDA
 - ☒ 4. DBCA

Question ID : 630680938765
Option 1 ID : 6306803679435
Option 2 ID : 6306803679438
Option 3 ID : 6306803679437
Option 4 ID : 6306803679436

Q.8 निम्नलिखित प्रश्न में, चार विकल्पों में से, उस सही विकल्प का चयन करें जो दिए गए अनुच्छेद के लिए अंतिम वाक्य का सही विकल्प हो।

देश भर में लोग अपने इलाके को साफ करते हैं। अपने आस-पास के वातावरण को स्वच्छ और हरा-भरा रखने का संकल्प लेते हैं। प्रधानमंत्री ने अनुरोध किया कि प्रत्येक भारतीय इस अभियान को एक चुनौती के रूप में लें।

- Ans
- ☒ 1. इसे एक असफल अभियान बनाने से लिए हर संभव प्रयास किया।
 - ☒ 2. इसे एक सफल अभियान न बनाने के लिए हर संभव प्रयास करें।
 - ☒ 3. इसे एक सफल अभियान बनाने के लिए हर संभव प्रयास करें।
 - ☒ 4. इसे एक सफल अभियान बनाने में लिए हर असंभव प्रयास करें।

Question ID : 630680938719
Option 1 ID : 6306803679262
Option 2 ID : 6306803679259
Option 3 ID : 6306803679261
Option 4 ID : 6306803679260

Q.9 निम्नलिखित प्रश्न में, चार विकल्पों में से, उस विकल्प का चयन करें जो दिए गए रिक्त स्थान के लिए सही कारक वाला विकल्प है।

बच्चों ने सड़क के कुत्ते _____ घर लाकर पानी पिलाया।

- Ans
- ☒ 1. के
 - ☒ 2. पर
 - ☒ 3. को
 - ☒ 4. में

Question ID : 630680938691
Option 1 ID : 6306803679151
Option 2 ID : 6306803679152
Option 3 ID : 6306803679153
Option 4 ID : 6306803679154

Q.10 निम्नलिखित चार विकल्पों में से, उस विकल्प का चयन करें जो दिए गए मुहावरे का उचित अर्थ है।

सुई की नॉक से ऊँट निकलना

- Ans
- ☒ 1. बुरे काम में फँसना
 - ☒ 2. असम्भव कार्य होना
 - ☒ 3. अहित सोचना
 - ☒ 4. क्रोध करना

Question ID : 630680938907
Option 1 ID : 6306803679975
Option 2 ID : 6306803679977
Option 3 ID : 6306803679976
Option 4 ID : 6306803679978

Q.11 निम्नलिखित प्रश्न में, चार विकल्पों में से, उस विकल्प का चयन करें जो कोष्ठक में दिए गए शब्द के अनुसार सही विशेषण के रूप वाला विकल्प है।

आज भी बहुत से देशों में (लाखों) लोग भूखमरी के शिकार हैं।

- Ans
- ✓ 1. संख्यावाचक विशेषण
 - ✗ 2. परिमाणवाचक विशेषण
 - ✗ 3. गुणवाचक विशेषण
 - ✗ 4. सार्वनामिक विशेषण

Question ID : 630680938736
Option 1 ID : 6306803679324
Option 2 ID : 6306803679326
Option 3 ID : 6306803679323
Option 4 ID : 6306803679325

Q.12 निम्नलिखित प्रश्न में, चार विकल्पों में से, उस विकल्प का चयन करें जो कोष्ठक में दिए गए शब्द के अनुसार सही क्रिया विशेषण के रूप वाला विकल्प है।

पुनीत अपना सब काम (ध्यानपूर्वक) करता है।

- Ans
- ✗ 1. परिमाणवाचक क्रिया-विशेषण
 - ✗ 2. स्थानवाचक क्रिया-विशेषण
 - ✓ 3. रीतिवाचक क्रिया-विशेषण
 - ✗ 4. कालवाचक क्रिया-विशेषण

Question ID : 630680938945
Option 1 ID : 6306803680119
Option 2 ID : 6306803680122
Option 3 ID : 6306803680121
Option 4 ID : 6306803680120

Q.13 निम्नलिखित प्रश्न में, चार विकल्पों में से, उस सही विकल्प का चयन करें जो वाक्यांशों के लिए एक शब्द का विकल्प हो।

बाणों को रखने का साधन

- Ans
- ✗ 1. तस्कर
 - ✗ 2. देशाटन
 - ✗ 3. दत्तक
 - ✓ 4. तूणीर

Question ID : 630680938773
Option 1 ID : 6306803679463
Option 2 ID : 6306803679466
Option 3 ID : 6306803679464
Option 4 ID : 6306803679465

Q.14 निम्नलिखित प्रश्न में, चार विकल्पों में से, उस विकल्प का चयन करें जो दिए गए वाक्य के लिए सही क्रिया के रूप वाला विकल्प है।

बच्चे खाना खाकर सोने चले गये हैं।

- Ans
- ☒ 1. अकर्मक क्रिया
 - ☒ 2. पूर्वकालिक क्रिया
 - ☒ 3. कृदंत क्रिया
 - ☒ 4. प्रेणार्थक क्रिया

Question ID : 630680938942
Option 1 ID : 6306803680107
Option 2 ID : 6306803680110
Option 3 ID : 6306803680109
Option 4 ID : 6306803680108

Q.15 निम्नलिखित में से, उस विकल्प का चयन करें जो दिए गए अनुच्छेद के अंतिम वाक्य को उचित प्रकार से प्रतिस्थापित कर सके-

प्रदूषण हमारे जीवन के प्रमुख विषयों में से एक है। यह हमारी पृथ्वी को व्यापक स्तर पर नकारात्मक रूप से प्रभावित कर रहा है। यह एक ऐसा मुद्दा है जो लंबे समय से चर्चा व चिंता का विषय रहा है।

- Ans
- ☒ 1. 21वीं सदी में इसका हानिकारक प्रभाव बड़े पैमाने पर महसूस किया जा रहा है।
 - ☒ 2. 21वीं सदी में इसका लाभकारी प्रभाव बड़े पैमाने पर महसूस किया जा रहा है।
 - ☒ 3. 21वीं सदी में इसका हानिकारक प्रभाव कुछ जगह पर महसूस किया जा रहा है।
 - ☒ 4. 21वीं सदी में इसका हानिकारक प्रभाव ज्यादा महसूस नहीं किया जा रहा है।

Question ID : 630680938845
Option 1 ID : 6306803679741
Option 2 ID : 6306803679739
Option 3 ID : 6306803679740
Option 4 ID : 6306803679742

Q.16 उचित विकल्प चुनकर, दिए गए वाक्य के कोष्ठक वाले भाग की त्रुटि को दूर करें-

इतिहासकारों का मानना है कि (हिन्दी विद्वानों द्वारा अपनी महान साहित्यिक कृतियों में प्रयोग की जाने वाली) प्रमुख भाषा रही है।

- Ans
- ☒ 1. विद्वान हिन्दी द्वारा अपनी महान साहित्यिक कृतियों में प्रयोग की जाने वाली
 - ☒ 2. हिन्दी विद्वानों द्वारा अपनी कृतियों में महान साहित्यिक प्रयोग की जाने वाली
 - ☒ 3. महान साहित्यिक हिन्दी विद्वानों द्वारा अपनी कृतियों में प्रयोग की जाने वाली
 - ☒ 4. हिन्दी, विद्वानों द्वारा अपनी महान साहित्यिक कृतियों में प्रयोग की जाने वाली

Question ID : 630680938889
Option 1 ID : 6306803679907
Option 2 ID : 6306803679909
Option 3 ID : 6306803679910
Option 4 ID : 6306803679908

Q.17 निम्नलिखित वाक्य में, उस वाक्यांश को पहचानिए जिसमें कुछ अशुद्धियाँ हैं। यदि कोई गलती नहीं है तो 'कोई त्रुटि नहीं है' का चुनाव कीजिए।

वर्ष के प्रारंभ से ही नियमपूर्वक अध्ययन न करने वाला परीक्षार्थी/ परीक्षा को इन कठिन दिनों पर पवन-सुत हनुमान से भाँति/ एक ही उड़ान में परीक्षा-समुद्र लौघना चाहता है।

- Ans
- ☒ 1. एक ही उड़ान में परीक्षा-समुद्र लौघना चाहता है।
 - ☒ 2. कोई त्रुटि नहीं है
 - ☒ 3. वर्ष के प्रारंभ से ही नियमपूर्वक अध्ययन न करने वाला परीक्षार्थी
 - ☒ 4. परीक्षा को इन कठिन दिनों पर पवन-सुत हनुमान से भाँति

Question ID : 630680938953
Option 1 ID : 6306803680153
Option 2 ID : 6306803680154
Option 3 ID : 6306803680151
Option 4 ID : 6306803680152

Q.18 दिए गए वाक्य के कोष्ठक वाले भाग में त्रुटि हो सकती है। वह विकल्प चुने जो इस त्रुटि को ठीक करें।

गरीबी की वजह से (गरीब माता-पिता दूसरे बच्चों को घर-घर और दुकानों में काम) करने के लिए भेजते हैं।

- Ans
- ☒ 1. गरीब पड़ोसी कुछ बच्चों को घर-घर और दुकानों में काम
 - ☒ 2. गरीब माता-पिता अपने बच्चों को घर-घर और दुकानों में काम
 - ☒ 3. गरीब माता-पिता दूसरे बच्चों को घर-घर और दुकानों में काम
 - ☒ 4. अमीर माता-पिता अपने बच्चों को घर-घर और दुकानों में काम

Question ID : 630680938971
Option 1 ID : 6306803680222
Option 2 ID : 6306803680221
Option 3 ID : 6306803680219
Option 4 ID : 6306803680220

Q.19 निम्नलिखित वाक्य में, उस वाक्यांश को पहचानिए जिसमें कुछ अशुद्धियाँ हैं। यदि कोई गलती नहीं है तो 'कोई त्रुटि नहीं है' का चुनाव कीजिए।

गर्मी के दिनों में भगवान् भास्कर रात्रि के अन्धकार को/ नष्ट करने पर जल्दी प्रकट आ जाते हैं क्योंकि बहुत देर/ तक जाने का नाम भी नहीं लेते।

- Ans
- ☒ 1. गर्मी के दिनों में भगवान् भास्कर रात्रि के अन्धकार को
 - ☒ 2. तक जाने का नाम भी नहीं लेते।
 - ☒ 3. कोई त्रुटि नहीं है
 - ☒ 4. नष्ट करने पर जल्दी प्रकट आ जाते हैं क्योंकि बहुत देर

Question ID : 630680938995
Option 1 ID : 6306803680311
Option 2 ID : 6306803680313
Option 3 ID : 6306803680314
Option 4 ID : 6306803680312

Q.20 निम्नलिखित प्रश्न में, चार विकल्पों में से, उस विकल्प का चयन करें जो दिए गए मुहावरे का सही अर्थ वाला विकल्प है।

अक्ल चरने जाना

- Ans
- ☒ 1. विवेकहीन शासन
 - ☒ 2. मति-भ्रम भ्रमित होना
 - ☒ 3. नींद न आना
 - ☒ 4. असम्भव कार्य होना

Question ID : 630680938780
Option 1 ID : 6306803679493
Option 2 ID : 6306803679491
Option 3 ID : 6306803679494
Option 4 ID : 6306803679492

Section : Test of Hindi Language and Comprehension 2

Q.1 निम्नलिखित प्रश्न में, चार विकल्पों में से, उस विकल्प का चयन करें जो दिए गए शब्द के तत्सम रूप वाला सही विकल्प है।

परछाई

- Ans
- ☒ 1. प्रस्तर
 - ☒ 2. पिपासा
 - ☒ 3. प्रतिच्छाया
 - ☒ 4. प्रतिवासी

Question ID : 630680938789
Option 1 ID : 6306803679528
Option 2 ID : 6306803679527
Option 3 ID : 6306803679529
Option 4 ID : 6306803679530

Q.2 निम्नलिखित प्रश्न में उस विकल्प का चयन करें जो दिए गए शब्द के अनेकार्थी रूप का विकल्प नहीं है।

मूक

- Ans
- ☒ 1. गुँगा
 - ☒ 2. चुपचाप
 - ☒ 3. विवश
 - ☒ 4. बिम्ब

Question ID : 630680938957
Option 1 ID : 6306803680170
Option 2 ID : 6306803680167
Option 3 ID : 6306803680169
Option 4 ID : 6306803680168

Q.3 निम्नलिखित प्रश्न में, चार विकल्पों में से, उस विकल्प का चयन करें जो दिए गए शब्द के पर्यायवाची शब्द का सही विकल्प नहीं है।

आसन

- Ans
- ☒ 1. आसनी
 - ☒ 2. चौकी
 - ☒ 3. नाद
 - ☒ 4. तख्त

Question ID : 630680938709
Option 1 ID : 6306803679226
Option 2 ID : 6306803679224
Option 3 ID : 6306803679223
Option 4 ID : 6306803679225

Q.4 निम्नलिखित चार विकल्पों में से, उस विकल्प का चयन करें जो दिए गए शब्द का विलोम है।

उत्तम

- Ans
- ☒ 1. अनुपम
 - ☒ 2. अनुचित
 - ☒ 3. अधम
 - ☒ 4. सौम्य

Question ID : 630680938879
Option 1 ID : 6306803679871
Option 2 ID : 6306803679872
Option 3 ID : 6306803679873
Option 4 ID : 6306803679874

Q.5 निम्नलिखित वाक्य में, उस वाक्यांश को पहचानिए जिसमें मात्राओं से संबंधित अशुद्धियाँ हैं। यदि कोई गलती नहीं है तो 'कोई त्रुटि नहीं है' का चुनाव कीजिए।

हमारे शिक्षक हमें शैक्षणिक दृष्टि से तो बेहतर/ बनाते ही हैं साथ ही हमारे ज्ञान व विश्वास स्तर को/ बढ़ाकर नैतिक रूप पर भी हमका अच्छा बनाते है।

- Ans
- ☒ 1. कोई त्रुटि नहीं है
 - ☒ 2. हमारे शिक्षक हमें शैक्षणिक दृष्टि से तो बेहतर
 - ☒ 3. बनाते ही हैं साथ ही हमारे ज्ञान व विश्वास स्तर को
 - ☒ 4. बढ़ाकर नैतिक रूप पर भी हमका अच्छा बनाते है।

Question ID : 630680938744
Option 1 ID : 6306803679358
Option 2 ID : 6306803679355
Option 3 ID : 6306803679356
Option 4 ID : 6306803679357

Q.6 निम्नलिखित प्रश्न में, चार विकल्पों में से, उस विकल्प का चयन करें जो दिए गए शब्द के अनेकार्थी रूप वाला सही विकल्प नहीं है।

बाद

- Ans
- ☒ 1. सिवाय
 - ☒ 2. पीछे
 - ☒ 3. ताकत
 - ☒ 4. व्यर्थ

Question ID : 630680938708
Option 1 ID : 6306803679219
Option 2 ID : 6306803679221
Option 3 ID : 6306803679220
Option 4 ID : 6306803679222

Q.7 निम्नलिखित वाक्य में, उस वाक्यांश को पहचानिए जिसमें कुछ अशुद्धियाँ हैं। यदि कोई गलती नहीं है तो 'कोई त्रुटि नहीं है' का चुनाव कीजिए।

निर्मल जल में सूर्य, चन्द्रमा की परछाई का हिलोरे लेना, तट पर खड़े वृक्षों का चन्द्रमा की चाँदनी की छटा बिखेरना वह नज़ारा कैसी अलौकिक शक्ति को कम नहीं लगती।

- Ans
- ☒ 1. वह नज़ारा कैसी अलौकिक शक्ति को कम नहीं लगती।
 - ☒ 2. तट पर खड़े वृक्षों का चन्द्रमा की चाँदनी की छटा बिखेरना
 - ☒ 3. कोई त्रुटि नहीं है
 - ☒ 4. निर्मल जल में सूर्य चन्द्रमा की परछाई का हिलोरे लेना,

Question ID : 630680938827
Option 1 ID : 6306803679673
Option 2 ID : 6306803679672
Option 3 ID : 6306803679674
Option 4 ID : 6306803679671

Q.8 निम्नलिखित प्रश्न में, चार विकल्पों में से, उस विकल्प का चयन करें जो दिए गए शब्द के तत्सम रूप वाला सही विकल्प है।

कंघी

- Ans
- ☒ 1. कंकण
 - ☒ 2. कंकट
 - ☒ 3. कंकती
 - ☒ 4. कटु

Question ID : 630680938955
Option 1 ID : 6306803680159
Option 2 ID : 6306803680160
Option 3 ID : 6306803680162
Option 4 ID : 6306803680161

Q.9 निम्नलिखित प्रश्न में, चार विकल्पों में से, उस विकल्प का चयन करें जो दिए गए शब्द के विलोम शब्द का विकल्प है।

उद्यमी

- Ans ☒ 1. आलसी
☒ 2. अनुदार
☒ 3. पतन
☒ 4. पूर्वार्द्ध

Question ID : 630680938794
 Option 1 ID : 6306803679548
 Option 2 ID : 6306803679547
 Option 3 ID : 6306803679549
 Option 4 ID : 6306803679550

Q.10 निम्नलिखित प्रश्न में, चार विकल्पों में से, उस विकल्प का चयन करें जो दिए गए शब्द के पर्यायवाची शब्द का सही विकल्प नहीं है।

धीर

- Ans ☒ 1. सहनशील
☒ 2. शरसन
☒ 3. तितिक्षु
☒ 4. सहिष्णु

Question ID : 630680939003
 Option 1 ID : 6306803680343
 Option 2 ID : 6306803680346
 Option 3 ID : 6306803680345
 Option 4 ID : 6306803680344

Comprehension:

नीचे दिए गये गद्यांश में कुछ शब्द छोड़ दिये गए हैं, प्रत्येक अनुच्छेद के सामने चार विकल्प दिया गया है। इस गद्यांश को ध्यानपूर्वक पढ़ें और चार विकल्पों में से सर्वोत्तम उत्तर वाला विकल्प चुनें।

आजकल, समाचार पत्र जीवन की एक आवश्यकता बन गया है। यह बाजार में लगभग सभी _____ में उपलब्ध होता है। एक समाचार पत्र में खबरों का प्रकाशन होता है, जो कागजों पर छापा जाता है और लोगों के घरों में वितरित किया जाता है। अलग-अलग देश अपना अलग समाचार संगठन रखते हैं। अखबार हमें अपने देश में हो रही सभी घटनाओं के साथ ही संसार में हो रही घटनाओं से भी _____ कराते हैं। यह हमें खेल, नीति, धर्म, समाज, अर्थव्यवस्था, फिल्म उद्योग, फिल्म (चलचित्र), भोजन, रोजगार आदि के बारे में बिल्कुल सटीक जानकारी देता है। समाचार पत्र लोगों की _____ और जरूरत के अनुसार लोगों के एक से अधिक उद्देश्यों की पूर्ति करता है। समाचार पत्र बहुत ही प्रभावी और _____ होते हैं और संसार की सभी खबरों व सूचनाओं को एक साथ एक स्थान पर लोगों को पहुंचाते हैं। सूचनाओं की तुलना में इसकी _____ बहुत कम होती है। यह हमें हमारे चारों ओर हो रही सभी घटनाओं के बारे में सूचित करता रहता है।

SubQuestion No : 11

Q.11 यह बाजार में लगभग सभी _____ में उपलब्ध होता है।

- Ans
- ☒ 1. लम्बाई
 - ☒ 2. किताबों
 - ☒ 3. भाषाओं
 - ☒ 4. कार्यों

Question ID : 630680938684
Option 1 ID : 6306803679123
Option 2 ID : 6306803679125
Option 3 ID : 6306803679124
Option 4 ID : 6306803679126

Comprehension:

नीचे दिए गये गद्यांश में कुछ शब्द छोड़ दिये गए हैं, प्रत्येक अनुच्छेद के सामने चार विकल्प दिया गया है। इस गद्यांश को ध्यानपूर्वक पढ़ें और चार विकल्पों में से सर्वोत्तम उत्तर वाला विकल्प चुनें।

आजकल, समाचार पत्र जीवन की एक आवश्यकता बन गया है। यह बाजार में लगभग सभी _____ में उपलब्ध होता है। एक समाचार पत्र में खबरों का प्रकाशन होता है, जो कागजों पर छापा जाता है और लोगों के घरों में वितरित किया जाता है। अलग-अलग देश अपना अलग समाचार संगठन रखते हैं। अखबार हमें अपने देश में हो रही सभी घटनाओं के साथ ही संसार में हो रही घटनाओं से भी _____ कराते हैं। यह हमें खेल, नीति, धर्म, समाज, अर्थव्यवस्था, फिल्म उद्योग, फिल्म (चलचित्र), भोजन, रोजगार आदि के बारे में बिल्कुल सटीक जानकारी देता है। समाचार पत्र लोगों की _____ और जरूरत के अनुसार लोगों के एक से अधिक उद्देश्यों की पूर्ति करता है। समाचार पत्र बहुत ही प्रभावी और _____ होते हैं और संसार की सभी खबरों व सूचनाओं को एक साथ एक स्थान पर लोगों को पहुंचाते हैं। सूचनाओं की तुलना में इसकी _____ बहुत कम होती है। यह हमें हमारे चारों ओर हो रही सभी घटनाओं के बारे में सूचित करता रहता है।

SubQuestion No : 12

Q.12 अखबार हमें अपने देश में हो रही सभी घटनाओं के साथ ही संसार में हो रही घटनाओं से भी _____ कराते हैं।

- Ans
- ☒ 1. प्रकाशित
 - ☒ 2. आच्छादित
 - ☒ 3. पराजित
 - ☒ 4. अवगत

Question ID : 630680938685
Option 1 ID : 6306803679130
Option 2 ID : 6306803679128
Option 3 ID : 6306803679127
Option 4 ID : 6306803679129

Comprehension:

नीचे दिए गये गद्यांश में कुछ शब्द छोड़ दिये गए हैं, प्रत्येक अनुच्छेद के सामने चार विकल्प दिया गया है। इस गद्यांश को ध्यानपूर्वक पढ़ें और चार विकल्पों में से सर्वोत्तम उत्तर वाला विकल्प चुनें।

आजकल, समाचार पत्र जीवन की एक आवश्यकता बन गया है। यह बाजार में लगभग सभी _____ में उपलब्ध होता है। एक समाचार पत्र में खबरों का प्रकाशन होता है, जो कागजों पर छापा जाता है और लोगों के घरों में वितरित किया जाता है। अलग-अलग देश अपना अलग समाचार संगठन रखते हैं। अखबार हमें अपने देश में हो रही सभी घटनाओं के साथ ही संसार में हो रही घटनाओं से भी _____ कराते हैं। यह हमें खेल, नीति, धर्म, समाज, अर्थव्यवस्था, फिल्म उद्योग, फिल्म (चलचित्र), भोजन, रोजगार आदि के बारे में बिल्कुल सटीक जानकारी देता है। समाचार पत्र लोगों की _____ और जरूरत के अनुसार लोगों के एक से अधिक उद्देश्यों की पूर्ति करता है। समाचार पत्र बहुत ही प्रभावी और _____ होते हैं और संसार की सभी खबरों व सूचनाओं को एक साथ एक स्थान पर लोगों को पहुंचाते हैं। सूचनाओं की तुलना में इसकी _____ बहुत कम होती है। यह हमें हमारे चारों ओर हो रही सभी घटनाओं के बारे में सूचित करता रहता है।

SubQuestion No : 13

Q.13 समाचार पत्र लोगों की _____ और जरूरत के अनुसार लोगों के एक से अधिक उद्देश्यों की पूर्ति करता है।

- Ans ☒ 1. ज्ञान
☒ 2. आवश्यकता
☒ 3. जनसंख्या
☒ 4. बात

Question ID : 630680938686
Option 1 ID : 6306803679132
Option 2 ID : 6306803679134
Option 3 ID : 6306803679131
Option 4 ID : 6306803679133

Comprehension:

नीचे दिए गये गद्यांश में कुछ शब्द छोड़ दिये गए हैं, प्रत्येक अनुच्छेद के सामने चार विकल्प दिया गया है। इस गद्यांश को ध्यानपूर्वक पढ़ें और चार विकल्पों में से सर्वोत्तम उत्तर वाला विकल्प चुनें।

आजकल, समाचार पत्र जीवन की एक आवश्यकता बन गया है। यह बाजार में लगभग सभी _____ में उपलब्ध होता है। एक समाचार पत्र में खबरों का प्रकाशन होता है, जो कागजों पर छापा जाता है और लोगों के घरों में वितरित किया जाता है। अलग-अलग देश अपना अलग समाचार संगठन रखते हैं। अखबार हमें अपने देश में हो रही सभी घटनाओं के साथ ही संसार में हो रही घटनाओं से भी _____ कराते हैं। यह हमें खेल, नीति, धर्म, समाज, अर्थव्यवस्था, फिल्म उद्योग, फिल्म (चलचित्र), भोजन, रोजगार आदि के बारे में बिल्कुल सटीक जानकारी देता है। समाचार पत्र लोगों की _____ और जरूरत के अनुसार लोगों के एक से अधिक उद्देश्यों की पूर्ति करता है। समाचार पत्र बहुत ही प्रभावी और _____ होते हैं और संसार की सभी खबरों व सूचनाओं को एक साथ एक स्थान पर लोगों को पहुंचाते हैं। सूचनाओं की तुलना में इसकी _____ बहुत कम होती है। यह हमें हमारे चारों ओर हो रही सभी घटनाओं के बारे में सूचित करता रहता है।

SubQuestion No : 14

Q.14 समाचार पत्र बहुत ही प्रभावी और _____ होते हैं।

- Ans ☒ 1. अव्यवस्थित
☒ 2. शक्तिशाली
☒ 3. नकारात्मक
☒ 4. अनावश्यक

Question ID : 630680938687
Option 1 ID : 6306803679137
Option 2 ID : 6306803679135
Option 3 ID : 6306803679136
Option 4 ID : 6306803679138

Comprehension:

नीचे दिए गये गद्यांश में कुछ शब्द छोड़ दिये गए हैं, प्रत्येक अनुच्छेद के सामने चार विकल्प दिया गया है। इस गद्यांश को ध्यानपूर्वक पढ़ें और चार विकल्पों में से सर्वोत्तम उत्तर वाला विकल्प चुनें।

आजकल, समाचार पत्र जीवन की एक आवश्यकता बन गया है। यह बाजार में लगभग सभी _____ में उपलब्ध होता है। एक समाचार पत्र में खबरों का प्रकाशन होता है, जो कागजों पर छापा जाता है और लोगों के घरों में वितरित किया जाता है। अलग-अलग देश अपना अलग समाचार संगठन रखते हैं। अखबार हमें अपने देश में हो रही सभी घटनाओं के साथ ही संसार में हो रही घटनाओं से भी _____ कराते हैं। यह हमें खेल, नीति, धर्म, समाज, अर्थव्यवस्था, फिल्म उद्योग, फिल्म (चलचित्र), भोजन, रोजगार आदि के बारे में बिल्कुल सटीक जानकारी देता है। समाचार पत्र लोगों की _____ और जरूरत के अनुसार लोगों के एक से अधिक उद्देश्यों की पूर्ति करता है। समाचार पत्र बहुत ही प्रभावी और _____ होते हैं और संसार की सभी खबरों व सूचनाओं को एक साथ एक स्थान पर लोगों को पहुंचाते हैं। सूचनाओं की तुलना में इसकी _____ बहुत कम होती है। यह हमें हमारे चारों ओर हो रही सभी घटनाओं के बारे में सूचित करता रहता है।

SubQuestion No : 15

Q.15 सूचनाओं की तुलना में इसकी _____ बहुत कम होती है।

- Ans ☒ 1. जरूरत
☒ 2. कीमत
☒ 3. देखरेख
☒ 4. माँग

Question ID : 630680938688
Option 1 ID : 6306803679140
Option 2 ID : 6306803679141
Option 3 ID : 6306803679142
Option 4 ID : 6306803679139

Comprehension:

नीचे दिए गये गद्यांश के बाद 5 प्रश्न दिए गये हैं। इस गद्यांश को ध्यानपूर्वक पढ़ें और चार विकल्पों में से प्रत्येक प्रश्न का सर्वोत्तम उत्तर चुनें।

जल और प्रकृति के साथ मनुष्य का शुरू से ही गहरा नाता रहा है। प्राकृतिक सौंदर्य की वजह से ही वर्षा होती है और यही वर्षा किसान के खेत खलियान को पानी देने का भी काम करती है। इसलिए कह सकते हैं कि जल और प्राकृतिक के साथ मनुष्य का एक अनमोल रिश्ता है, जिसे एक किसान ही समझ सकता है क्योंकि उसकी फसल जल के कारण ही संभव हो पाती है। पहले के समय में सिंचाई के लिए लोग पूरी तरह से ही वर्षा के पानी पर ही निर्भर रहते थे। उनके पास कोई अन्य साधन की व्यवस्था नहीं होती थी। जैसे – जैसे समय बदला नए तकनीक का विकास हुआ वैसे – वैसे जल और प्राकृतिक सौंदर्य में भी बदलाव आया। लेकिन पानी और मनुष्य का संबंध में कोई बदलाव नहीं हुआ उनकी जरूरत आज भी उतनी ही है जितनी पहले हुआ करती थी बस जरूरत है उन्हें सहेज के रखने की। पानी हमारे शरीर के लिए बहुत फायदेमंद होता है, जल के बिना हम जिंदा रहने के बारे में सोच भी नहीं सकते हैं। पानी हमें एक नई ऊर्जा देता है जिसके कारण हमारा शरीर काफी तेज गति से काम करने के लिए हमेशा तैयार रहता है। जिस तरह से भोजन हमारे के लिए आवश्यक है ठीक उसी तरह पानी भी हमारे लिए आवश्यक है। पानी हमारे शरीर का एक महत्वपूर्ण तत्व है।

SubQuestion No : 16

Q.16 इस अनुच्छेद का कोई उपयुक्त शीर्षक-

- Ans ☒ 1. जल और बदलाव
☒ 2. जल और मनुष्य
☒ 3. प्राकृतिक सौंदर्य
☒ 4. आवश्यक पानी

Question ID : 630680938756
Option 1 ID : 6306803679400
Option 2 ID : 6306803679399
Option 3 ID : 6306803679401
Option 4 ID : 6306803679402

Comprehension:

नीचे दिए गये गद्यांश के बाद 5 प्रश्न दिए गये हैं। इस गद्यांश को ध्यानपूर्वक पढ़ें और चार विकल्पों में से प्रत्येक प्रश्न का सर्वोत्तम उत्तर चुनें।

जल और प्रकृति के साथ मनुष्य का शुरू से ही गहरा नाता रहा है। प्राकृतिक सौंदर्य की वजह से ही वर्षा होती है और यही वर्षा किसान के खेत खलियान को पानी देने का भी काम करती हैं। इसलिए कह सकते हैं कि जल और प्राकृतिक के साथ मनुष्य का एक अनमोल रिश्ता है, जिसे एक किसान ही समझ सकता है क्योंकि उसकी फसल जल के कारण ही संभव हो पाती है। पहले के समय में सिंचाई के लिए लोग पूरी तरह से ही वर्षा के पानी पर ही निर्भर रहते थे। उनके पास कोई अन्य साधन की व्यवस्था नहीं होती थी। जैसे – जैसे समय बदला नए तकनीक का विकास हुआ वैसे – वैसे जल और प्राकृतिक सौंदर्य में भी बदलाव आया। लेकिन पानी और मनुष्य का संबंध में कोई बदलाव नहीं हुआ उनकी जरूरत आज भी उतनी ही है जितनी पहले हुआ करती थी बस जरूरत है उन्हें सहेज के रखने की। पानी हमारे शरीर के लिए बहुत फायदेमंद होता है, जल के बिना हम जिंदा रहने के बारे में सोच भी नहीं सकते हैं। पानी हमें एक नई ऊर्जा देता है जिसके कारण हमारा शरीर काफी तेज गति से काम करने के लिए हमेशा तैयार रहता है। जिस तरह से भोजन हमारे के लिए आवश्यक है ठीक उसी तरह पानी भी हमारे लिए आवश्यक है। पानी हमारे शरीर का एक महत्वपूर्ण तत्व है।

SubQuestion No : 17

Q.17 निम्नलिखित प्रश्न में, चार विकल्पों में से, उस विकल्प का चयन करें जो दिए गए शब्द के विलोम शब्द का विकल्प है।

ऊर्जा

- Ans ☒ 1. कमी
☒ 2. शक्ति
☒ 3. आलस्य
☒ 4. व्यवसाय

Question ID : 630680938760
Option 1 ID : 6306803679416
Option 2 ID : 6306803679415
Option 3 ID : 6306803679417
Option 4 ID : 6306803679418

Comprehension:

नीचे दिए गये गद्यांश के बाद 5 प्रश्न दिए गये हैं। इस गद्यांश को ध्यानपूर्वक पढ़ें और चार विकल्पों में से प्रत्येक प्रश्न का सर्वोत्तम उत्तर चुनें।

जल और प्रकृति के साथ मनुष्य का शुरू से ही गहरा नाता रहा है। प्राकृतिक सौंदर्य की वजह से ही वर्षा होती है और यही वर्षा किसान के खेत खलियान को पानी देने का भी काम करती हैं। इसलिए कह सकते हैं कि जल और प्राकृतिक के साथ मनुष्य का एक अनमोल रिश्ता है, जिसे एक किसान ही समझ सकता है क्योंकि उसकी फसल जल के कारण ही संभव हो पाती है। पहले के समय में सिंचाई के लिए लोग पूरी तरह से ही वर्षा के पानी पर ही निर्भर रहते थे। उनके पास कोई अन्य साधन की व्यवस्था नहीं होती थी। जैसे – जैसे समय बदला नए तकनीक का विकास हुआ वैसे – वैसे जल और प्राकृतिक सौंदर्य में भी बदलाव आया। लेकिन पानी और मनुष्य का संबंध में कोई बदलाव नहीं हुआ उनकी जरूरत आज भी उतनी ही है जितनी पहले हुआ करती थी बस जरूरत है उन्हें सहेज के रखने की। पानी हमारे शरीर के लिए बहुत फायदेमंद होता है, जल के बिना हम जिंदा रहने के बारे में सोच भी नहीं सकते हैं। पानी हमें एक नई ऊर्जा देता है जिसके कारण हमारा शरीर काफी तेज गति से काम करने के लिए हमेशा तैयार रहता है। जिस तरह से भोजन हमारे के लिए आवश्यक है ठीक उसी तरह पानी भी हमारे लिए आवश्यक है। पानी हमारे शरीर का एक महत्वपूर्ण तत्व है।

SubQuestion No : 18

Q.18 अनुच्छेद के अनुसार पानी के महत्व से संबंधित कौन-सा विकल्प गलत है?

- Ans ☒ 1. हमें ऊर्जा देता है
☒ 2. जीवन जीने के लिए फायदेमंद
☒ 3. शरीर के लिए फायदेमंद
☒ 4. पानी से ही तकनीक का विकास हुआ है

Question ID : 630680938758
Option 1 ID : 6306803679407
Option 2 ID : 6306803679410
Option 3 ID : 6306803679408
Option 4 ID : 6306803679409

Comprehension:

नीचे दिए गये गद्यांश के बाद 5 प्रश्न दिए गये हैं। इस गद्यांश को ध्यानपूर्वक पढ़ें और चार विकल्पों में से प्रत्येक प्रश्न का सर्वोत्तम उत्तर चुनें।

जल और प्रकृति के साथ मनुष्य का शुरू से ही गहरा नाता रहा है। प्राकृतिक सौंदर्य की वजह से ही वर्षा होती है और यही वर्षा किसान के खेत खलियान को पानी देने का भी काम करती है। इसलिए कह सकते हैं कि जल और प्राकृतिक के साथ मनुष्य का एक अनमोल रिश्ता है, जिसे एक किसान ही समझ सकता है क्योंकि उसकी फसल जल के कारण ही संभव हो पाती है। पहले के समय में सिंचाई के लिए लोग पूरी तरह से ही वर्षा के पानी पर ही निर्भर रहते थे। उनके पास कोई अन्य साधन की व्यवस्था नहीं होती थी। जैसे – जैसे समय बदला नए तकनीक का विकास हुआ वैसे – वैसे जल और प्राकृतिक सौंदर्य में भी बदलाव आया। लेकिन पानी और मनुष्य का संबंध में कोई बदलाव नहीं हुआ उनकी जरूरत आज भी उतनी ही है जितनी पहले हुआ करती थी बस जरूरत है उन्हें सहेज के रखने की। पानी हमारे शरीर के लिए बहुत फायदेमंद होता है, जल के बिना हम जिंदा रहने के बारे में सोच भी नहीं सकते हैं। पानी हमें एक नई ऊर्जा देता है जिसके कारण हमारा शरीर काफी तेज गति से काम करने के लिए हमेशा तैयार रहता है। जिस तरह से भोजन हमारे के लिए आवश्यक है ठीक उसी तरह पानी भी हमारे लिए आवश्यक है। पानी हमारे शरीर का एक महत्वपूर्ण तत्व है।

SubQuestion No : 19

Q.19 निम्नलिखित प्रश्न में, चार विकल्पों में से, उस विकल्प का चयन करें जो दिए गए शब्द के पर्यायवाची शब्द का विकल्प नहीं है।

सौंदर्य

- Ans ☒ 1. दुर्मोह
☒ 2. रमणीयता
☒ 3. लावण्य
☒ 4. शुचिता

Question ID : 630680938759
Option 1 ID : 6306803679414
Option 2 ID : 6306803679413
Option 3 ID : 6306803679412
Option 4 ID : 6306803679411

Comprehension:

नीचे दिए गये गद्यांश के बाद 5 प्रश्न दिए गये हैं। इस गद्यांश को ध्यानपूर्वक पढ़ें और चार विकल्पों में से प्रत्येक प्रश्न का सर्वोत्तम उत्तर चुनें।

जल और प्रकृति के साथ मनुष्य का शुरू से ही गहरा नाता रहा है। प्राकृतिक सौंदर्य की वजह से ही वर्षा होती है और यही वर्षा किसान के खेत खलियान को पानी देने का भी काम करती है। इसलिए कह सकते हैं कि जल और प्राकृतिक के साथ मनुष्य का एक अनमोल रिश्ता है, जिसे एक किसान ही समझ सकता है क्योंकि उसकी फसल जल के कारण ही संभव हो पाती है। पहले के समय में सिंचाई के लिए लोग पूरी तरह से ही वर्षा के पानी पर ही निर्भर रहते थे। उनके पास कोई अन्य साधन की व्यवस्था नहीं होती थी। जैसे – जैसे समय बदला नए तकनीक का विकास हुआ वैसे – वैसे जल और प्राकृतिक सौंदर्य में भी बदलाव आया। लेकिन पानी और मनुष्य का संबंध में कोई बदलाव नहीं हुआ उनकी जरूरत आज भी उतनी ही है जितनी पहले हुआ करती थी बस जरूरत है उन्हें सहेज के रखने की। पानी हमारे शरीर के लिए बहुत फायदेमंद होता है, जल के बिना हम जिंदा रहने के बारे में सोच भी नहीं सकते हैं। पानी हमें एक नई ऊर्जा देता है जिसके कारण हमारा शरीर काफी तेज गति से काम करने के लिए हमेशा तैयार रहता है। जिस तरह से भोजन हमारे के लिए आवश्यक है ठीक उसी तरह पानी भी हमारे लिए आवश्यक है। पानी हमारे शरीर का एक महत्वपूर्ण तत्व है।

SubQuestion No : 20

Q.20 अनुच्छेद के अनुसार वर्षा का मुख्य कारण क्या है?

- Ans ☒ 1. प्रकृति की सुंदरता
☒ 2. किसान का काम
☒ 3. अनमोल रिश्ता
☒ 4. मनुष्य की सुंदरता

Question ID : 630680938757
Option 1 ID : 6306803679404
Option 2 ID : 6306803679403
Option 3 ID : 6306803679405
Option 4 ID : 6306803679406