

DSSSB

Previous Year Paper

Asst Superintendent

20 Jul, 2024 Shift 2

Adda247

Test Prime

ALL EXAMS, ONE SUBSCRIPTION



80,000+
Mock Tests



**Personalised
Report Card**



**Unlimited
Re-Attempt**



600+
Exam Covered



20,000+ Previous
Year Papers



500%
Refund



ATTEMPT FREE MOCK NOW



GOVT. OF NCT OF DELHI
Delhi Subordinate Services Selection Board
FC-18, Institutional Area, Karkardooma, Delhi – 110092.
www.dsssb.delhigovt.nic.in

Participant ID	
Participant Name	
Test Center Name	
Test Date	20/07/2024
Test Time	12:30 PM - 2:30 PM
Subject	Assistant Superintendent

Section : General intelligence and Reasoning Ability 1

Q.1 Consider the string given below made up of letters. Which letter will be the eighth letter to the left of the fifth letter from the right?

(Left) YV KESGLHONPJRHFMAW IQZATXL (Right)

- Ans
- ☒ 1. J
 - ☒ 2. H
 - ☒ 3. M
 - ☒ 4. R

Question ID : 630680938128
Option 1 ID : 6306803676990
Option 2 ID : 6306803676991
Option 3 ID : 6306803676992
Option 4 ID : 6306803676989

Q.2 After interchanging the given two numbers and two signs what will be the values of equation (I), (II) and (III) respectively?

+ and ×, 5 and 4

- I. $4 + 8 \times 5 - 7 \div 1$
II. $5 \times 3 - 4 + 6 \div 2$
III. $4 + 8 - 6 \div 3 \times 5$

- Ans
- ☒ 1. 37, -8, 42
 - ☒ 2. 21, -9, 17
 - ☒ 3. 17, 19, -8
 - ☒ 4. 38, 9, 43

Question ID : 630680937952
Option 1 ID : 6306803676285
Option 2 ID : 6306803676288
Option 3 ID : 6306803676287
Option 4 ID : 6306803676286

Q.3 Select the option that is related to the first number cluster in the same way as the fourth number cluster is related to the third number cluster and sixth number cluster is related to fifth number cluster. (NOTE: Operations should be performed on the whole numbers, without breaking down the numbers into its constituent digits. E.g.13 – Operations on 13 such as adding /subtracting /multiplying etc. to 13 can be performed. Breaking down 13 into 1 and 3 and then performing mathematical operations on 1 and 3 is not allowed)

14 : ? :: 26 : 17577 :: 37 : 50654

- Ans
- ☐ 1. 2744
 - ☐ 2. 2775
 - ☐ 3. 2743
 - ☒ 4. 2745

Question ID : 630680938155
Option 1 ID : 6306803677098
Option 2 ID : 6306803677100
Option 3 ID : 6306803677099
Option 4 ID : 6306803677097

Q.4 In the following question, group of letter clusters is given. The letter clusters of each group are related with the other letter clusters of the same group by some Logic/Rule/Relation. From the given alternatives, select the group of letter clusters which follows the same Logic/Rule/Relation.

(ZO, BP, DQ)
(GR, IS, KT)

- Ans
- ☐ 1. (AR, DS, FT)
 - ☐ 2. (WC, YD, BE)
 - ☒ 3. (EP, GQ, IR)
 - ☐ 4. (HV, KW, MX)

Question ID : 630680938058
Option 1 ID : 6306803676712
Option 2 ID : 6306803676711
Option 3 ID : 6306803676709
Option 4 ID : 6306803676710

Q.5 In the following question, group of letter clusters is given. The letter clusters of each group are related with the other letter clusters of the same group by some Logic/Rule/Relation. From the given alternatives, select the group of letter clusters which follows the same Logic/Rule/Relation.

(GF, CB, YX)
(BO, XK, TG)

- Ans
- ☐ 1. (LT, GP, CL)
 - ☐ 2. (UW, QS, LO)
 - ☐ 3. (FC, BY, XT)
 - ☒ 4. (QN, MJ, IF)

Question ID : 630680938138
Option 1 ID : 6306803677032
Option 2 ID : 6306803677029
Option 3 ID : 6306803677030
Option 4 ID : 6306803677031

Q.6 In the following question, select the missing number from the given series.

129, 123, 117, 111, 105, ?

- Ans
- ☒ 1. 97
 - ☒ 2. 99
 - ☒ 3. 96
 - ☒ 4. 98

Question ID : 630680937993
Option 1 ID : 6306803676450
Option 2 ID : 6306803676452
Option 3 ID : 6306803676449
Option 4 ID : 6306803676451

Q.7 A is the mother of B. B is the son of C. C is the brother of D. D is the sister of E. E is the husband of F. How many female members are there?

- Ans
- ☒ 1. 3
 - ☒ 2. 2
 - ☒ 3. 4
 - ☒ 4. 5

Question ID : 630680938212
Option 1 ID : 6306803677326
Option 2 ID : 6306803677328
Option 3 ID : 6306803677325
Option 4 ID : 6306803677327

Q.8 Select the option that is related to the first number cluster in the same way as the fourth number cluster is related to the third number cluster and sixth number cluster is related to fifth number cluster. (NOTE: Operations should be performed on the whole numbers, without breaking down the numbers into its constituent digits. E.g.13 – Operations on 13 such as adding /subtracting /multiplying etc. to 13 can be performed. Breaking down 13 into 1 and 3 and then performing mathematical operations on 1 and 3 is not allowed)

166 : ? :: 151 : 301 :: 37 : 73

- Ans
- ☒ 1. 334
 - ☒ 2. 333
 - ☒ 3. 331
 - ☒ 4. 332

Question ID : 630680938156
Option 1 ID : 6306803677104
Option 2 ID : 6306803677103
Option 3 ID : 6306803677101
Option 4 ID : 6306803677102

Q.9 Consider the five three digit numbers given below and the answer the questions based on it.

(Left) 256 147 741 258 852 (Right)

What will be the cube of tens digit of the first number from the left?

- Ans
- ☒ 1. 125
 - ☐ 2. 81
 - ☐ 3. 216
 - ☐ 4. 196

Question ID : 630680938210
Option 1 ID : 6306803677319
Option 2 ID : 6306803677320
Option 3 ID : 6306803677317
Option 4 ID : 6306803677318

Q.10 A is the mother of B. B is the father of C. C is the brother of D. D is the husband of E. E is the sister of F. How is B related to E?

- Ans
- ☐ 1. Wife's father
 - ☐ 2. Husband's brother
 - ☒ 3. Husband's father
 - ☐ 4. Wife's sister

Question ID : 630680938131
Option 1 ID : 6306803677004
Option 2 ID : 6306803677002
Option 3 ID : 6306803677003
Option 4 ID : 6306803677001

Q.11 In a certain code language, 'MAZXN' is written as '96274', 'ZYQAR' is written as '32598', 'BXMPA' is written as '07126'. What can be the code for 'X' in that code language?

- Ans
- ☐ 1. 0
 - ☒ 2. 7
 - ☐ 3. 1
 - ☐ 4. 2

Question ID : 630680938205
Option 1 ID : 6306803677297
Option 2 ID : 6306803677298
Option 3 ID : 6306803677299
Option 4 ID : 6306803677300

Q.12 In a certain code language, 'LEARN' is coded as NHCUP, 'BOOK' is coded as 'DRQN'. How will 'NEXT' be coded in that code language?

- Ans
- ☒ 1. PHYW
 - ☒ 2. PHZW
 - ☒ 3. PHZV
 - ☒ 4. PIZW

Question ID : 630680938084
Option 1 ID : 6306803676815
Option 2 ID : 6306803676814
Option 3 ID : 6306803676816
Option 4 ID : 6306803676813

Q.13 If $14 \% 4 = 360$ and $6 \% 5 = 22$, then $5 \% 2 = ?$

- Ans
- ☒ 1. 66
 - ☒ 2. 46
 - ☒ 3. 42
 - ☒ 4. 54

Question ID : 630680938030
Option 1 ID : 6306803676600
Option 2 ID : 6306803676598
Option 3 ID : 6306803676597
Option 4 ID : 6306803676599

Q.14 Consider the string given below made up of letter and number. If letter U is replaced by 7 then how many 7's are there in the newly formed string?

TUTUTUU373TUTTT73U3UTTU37

- Ans
- ☒ 1. 13
 - ☒ 2. 12
 - ☒ 3. 10
 - ☒ 4. 11

Question ID : 630680938088
Option 1 ID : 6306803676830
Option 2 ID : 6306803676832
Option 3 ID : 6306803676831
Option 4 ID : 6306803676829

Q.15 In the following question, select the missing number from the given series.

73, 74, 149, 448, ?

- Ans
- ☒ 1. 1794
 - ☒ 2. 1792
 - ☒ 3. 1791
 - ☒ 4. 1793

Question ID : 630680937994
Option 1 ID : 6306803676456
Option 2 ID : 6306803676454
Option 3 ID : 6306803676453
Option 4 ID : 6306803676455

Q.16 If $6 \div 8 = 50$ and $20 \div 8 = 232$, then $9 \div 3 = ?$

- Ans ☒ 1. 45
☒ 2. 65
☒ 3. 100
☒ 4. 125

Question ID : 630680938150
 Option 1 ID : 6306803677078
 Option 2 ID : 6306803677077
 Option 3 ID : 6306803677079
 Option 4 ID : 6306803677080

Q.17 Select that missing pair (Fifth letter cluster : Sixth letter cluster) which is related in the same way as the first letter cluster is related to the second letter cluster and third letter cluster is related to fourth letter cluster.

NAH : KXE :: AGJ : XDG :: ?

- Ans ☒ 1. DAH : AYG
☒ 2. NDI : KAF
☒ 3. FRS : IOV
☒ 4. NRT : QUW

Question ID : 630680937976
 Option 1 ID : 6306803676383
 Option 2 ID : 6306803676381
 Option 3 ID : 6306803676382
 Option 4 ID : 6306803676384

Q.18 Arrange the given words in the sequence in which they occur in the dictionary.

1. Indifference
2. Indigenous
3. Indigent
4. Indigo
5. Indignity

- Ans ☒ 1. 21345
☒ 2. 21354
☒ 3. 12354
☒ 4. 12345

Question ID : 630680938129
 Option 1 ID : 6306803676995
 Option 2 ID : 6306803676996
 Option 3 ID : 6306803676994
 Option 4 ID : 6306803676993

Q.19 Select the option that is related to the third number cluster in the same way as the second number cluster is related to the first number cluster and sixth number cluster is related to fifth number cluster. (NOTE: Operations should be performed on the whole numbers, without breaking down the numbers into its constituent digits. E.g.13 – Operations on 13 such as adding /subtracting /multiplying etc. to 13 can be performed. Breaking down 13 into 1 and 3 and then performing mathematical operations on 1 and 3 is not allowed)

38 : 115 :: 77 : ? :: 171 : 514

- Ans
- ☒ 1. 231
 - ☒ 2. 233
 - ☒ 3. 234
 - ☒ 4. 232

Question ID : 630680938195
Option 1 ID : 6306803677257
Option 2 ID : 6306803677258
Option 3 ID : 6306803677259
Option 4 ID : 6306803677260

Q.20 In a certain code language, 'FORENSIC' is written as 'LRBWNAXO'. What is the code for 'GASOLINE' in that code language?

- Ans
- ☒ 1. NWRXBJP
 - ☒ 2. NWRXOBJP
 - ☒ 3. NWRUXBJP
 - ☒ 4. NRWUXBJP

Question ID : 630680938006
Option 1 ID : 6306803676504
Option 2 ID : 6306803676502
Option 3 ID : 6306803676501
Option 4 ID : 6306803676503

Section : General intelligence and Reasoning Ability 2

Q.1 A series is given with one term missing. Select the correct alternative from the given ones that will complete the series.

WE, TH, ?, NN, KQ

- Ans
- ☒ 1. OG
 - ☒ 2. QK
 - ☒ 3. TL
 - ☒ 4. SH

Question ID : 630680938066
Option 1 ID : 6306803676743
Option 2 ID : 6306803676742
Option 3 ID : 6306803676744
Option 4 ID : 6306803676741

Q.2 In the following question below are given some statements followed by some conclusions based on those statements. Taking the given statements to be true even if they seem to be at variance from commonly known facts. Read all the conclusions and then decide which of the given conclusion logically follows the given statements.

Statements:

- I. All P are Q.
- II. All Q are R.
- III. Some S are R.

Conclusions:

- I. Some R are S.
- II. Some Q are P.
- III. Some S are not Q.

- Ans**
- ☒ 1. All conclusion follows
 - ☒ 2. Both conclusions II and III follows
 - ☒ 3. Both conclusions I and III follows
 - ☒ 4. Both conclusions I and II follows

Question ID : 630680937975
Option 1 ID : 6306803676380
Option 2 ID : 6306803676378
Option 3 ID : 6306803676379
Option 4 ID : 6306803676377

Q.3 From the given option figures, select the one in which the question figure is hidden/embedded. (rotation is not allowed)



- Ans**
- ☒ 1.
 - ☒ 2.
 - ☒ 3.
 - ☒ 4.

Question ID : 630680938227
Option 1 ID : 6306803677385
Option 2 ID : 6306803677388
Option 3 ID : 6306803677387
Option 4 ID : 6306803677386

Q.4 Five friends P, B, C, G and H are sitting around a circular table facing towards the centre (not necessarily in the same order). B is sitting to the immediate left of C. G and H are not the immediate neighbour of C. H is sitting second to the right of P. Who is sitting second to the left of B?

- Ans
- ☒ 1. P
 - ☒ 2. C
 - ☒ 3. G
 - ☒ 4. H

Question ID : 630680937919
Option 1 ID : 6306803676154
Option 2 ID : 6306803676155
Option 3 ID : 6306803676153
Option 4 ID : 6306803676156

Q.5 In the following question, group of letter clusters is given. The letter clusters of each group are related with the other letter clusters of the same group by some Logic/Rule/Relation. From the given alternatives, select the group of letter clusters which follows the same Logic/Rule/Relation.

(SW, UA, WE)
(CT, EX, GB)

- Ans
- ☒ 1. (KX, MB, OF)
 - ☒ 2. (PJ, RO, TS)
 - ☒ 3. (HO, JS, MX)
 - ☒ 4. (MD, OI, QL)

Question ID : 630680938019
Option 1 ID : 6306803676555
Option 2 ID : 6306803676553
Option 3 ID : 6306803676556
Option 4 ID : 6306803676554

Q.6 Eight women A, B, C, D, E, F, G and H are sitting around a circular table facing opposite to the centre (not necessarily in the same order). B is second to the left of H. A is third to the left of B. D is to immediate right of H. F is fourth to the left of D. C is the immediate neighbour of H and B. G is second to the right of H. Who is sitting fourth to the right of C?

- Ans
- ☒ 1. E
 - ☒ 2. D
 - ☒ 3. G
 - ☒ 4. A

Question ID : 630680937921
Option 1 ID : 6306803676163
Option 2 ID : 6306803676161
Option 3 ID : 6306803676162
Option 4 ID : 6306803676164

Q.7 A series is given with one term missing. Select the correct alternative from the given ones that will complete the series.

AO, CR, EU, GX, ?

- Ans
- ☒ 1. HZ
 - ☒ 2. IA
 - ☒ 3. HA
 - ☒ 4. IZ

Question ID : 630680937944
Option 1 ID : 6306803676256
Option 2 ID : 6306803676254
Option 3 ID : 6306803676255
Option 4 ID : 6306803676253

Q.8 In the following question below are given some statements followed by some conclusions based on those statements. Taking the given statements to be true even if they seem to be at variance from commonly known facts. Read all the conclusions and then decide which of the given conclusion logically follows the given statements.

Statements:
I. All L are M.
II. No N is M.
III. No L is P.

Conclusions:
I. No M is N.
II. No P is M.
III. No L is N.

- Ans
- ☒ 1. All conclusion follows
 - ☒ 2. Both conclusions I and II follows
 - ☒ 3. Both conclusions II and III follows
 - ☒ 4. Both conclusions I and III follows

Question ID : 630680938214
Option 1 ID : 6306803677336
Option 2 ID : 6306803677333
Option 3 ID : 6306803677334
Option 4 ID : 6306803677335

Q.9 Suresh is 27 places ahead of Ashok in the row of 100 students. If Ashok's position is 37th from the bottom, what is Suresh's position from the top?

- Ans
- ☒ 1. 38th
 - ☒ 2. 36th
 - ☒ 3. 37th
 - ☒ 4. 35th

Question ID : 630680938161
Option 1 ID : 6306803677124
Option 2 ID : 6306803677121
Option 3 ID : 6306803677123
Option 4 ID : 6306803677122

Q.10 In the following question below are given some statements followed by some conclusions based on those statements. Taking the given statements to be true even if they seem to be at variance from commonly known facts. Read all the conclusions and then decide which of the given conclusion logically follows the given statements.

Statements:

- I. No D is E.
- II. Some E are F.
- III. Some F are G.

Conclusion:

- I. No D is F.
- II. Some D are G.
- III. All F are G.

- Ans**
- ☒ 1. Only conclusion I follows
 - ☒ 2. Only conclusion III follows
 - ☒ 3. Only conclusion II follows
 - ☒ 4. Neither conclusion follows

Question ID : 630680937973
Option 1 ID : 6306803676369
Option 2 ID : 6306803676371
Option 3 ID : 6306803676370
Option 4 ID : 6306803676372

Q.11 In the following question, select the odd letter/letters from the given alternatives.

- Ans**
- ☒ 1. MNR
 - ☒ 2. EFJ
 - ☒ 3. DCY
 - ☒ 4. JKO

Question ID : 630680938221
Option 1 ID : 6306803677363
Option 2 ID : 6306803677361
Option 3 ID : 6306803677364
Option 4 ID : 6306803677362

Q.12 In the following question, four letter pairs are given. The letters on left side of (–) is related to the letters on the right side of (–) with some Logic/Rule/Relation. Three are similar on basis of same Logic/Rule/Relation. Select the odd one out from the given alternatives.

- Ans**
- ☒ 1. LP – HU
 - ☒ 2. GS – TW
 - ☒ 3. RA – IE
 - ☒ 4. QI – JM

Question ID : 630680938223
Option 1 ID : 6306803677369
Option 2 ID : 6306803677372
Option 3 ID : 6306803677371
Option 4 ID : 6306803677370

Q.13 In the following question, select the odd letter/letters from the given alternatives.

- Ans ☒ 1. SUQ
☒ 2. EGC
☒ 3. CFB
☒ 4. ZBX

Question ID : 630680937942
 Option 1 ID : 6306803676248
 Option 2 ID : 6306803676246
 Option 3 ID : 6306803676245
 Option 4 ID : 6306803676247

Q.14 In the following question, select the odd letter/letters from the given alternatives.

- Ans ☒ 1. HGD
☒ 2. BDG
☒ 3. CEH
☒ 4. VXA

Question ID : 630680938022
 Option 1 ID : 6306803676567
 Option 2 ID : 6306803676565
 Option 3 ID : 6306803676566
 Option 4 ID : 6306803676568

Q.15 5 persons M, P, Q, R and S are sitting in a row facing north (not necessarily in the same order). R is to the immediate left of P. Q is second to the right of M. If P is to the left of Q, then how many persons are sitting to the right of M?

- Ans ☒ 1. 0
☒ 2. 1
☒ 3. 3
☒ 4. 2

Question ID : 630680938159
 Option 1 ID : 6306803677115
 Option 2 ID : 6306803677114
 Option 3 ID : 6306803677116
 Option 4 ID : 6306803677113

Q.16 6 boxes B1, B2, B3, B4, B5 and B6 are kept one above the other but not necessarily in the same order. B4 kept at second place from top. Only two boxes are kept below B1. Only B5 is kept below B2. B6 is kept above B3. How many boxes are kept below B6?

- Ans ☒ 1. 3
☒ 2. 4
☒ 3. 2
☒ 4. 5

Question ID : 630680937923
 Option 1 ID : 6306803676169
 Option 2 ID : 6306803676171
 Option 3 ID : 6306803676170
 Option 4 ID : 6306803676172

Q.17 Eight persons namely - John, Michael, Justin, Kim, Kanye, LeBron, Ben and Robert live on separate floors of an eight-floor building in Kanahiya residency. Ground floor is numbered 1; first floor is numbered 2 and so on until the topmost floor which is numbered 8. Only two people live between John and Michael. Ben lives immediately above Kim. Kanye lives immediately above Justin. Kanye lives above Robert. LeBron lives on an odd-numbered floor. Only one person lives between Kanye and Robert. John lives on the floor numbered five. Michael lives above John. Then find, "Lebron" lives on which numbered floor?

- Ans
- ☒ 1. 3
 - ☒ 2. 5
 - ☒ 3. 7
 - ☒ 4. 1

Question ID : 630680937963
Option 1 ID : 6306803676329
Option 2 ID : 6306803676331
Option 3 ID : 6306803676332
Option 4 ID : 6306803676330

Q.18 From the given option figures, select the one in which the question figure is hidden/embedded. (rotation is not allowed)



Ans

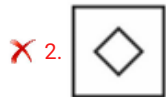
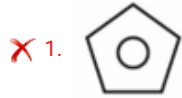
- ☒ 1.
- ☒ 2.
- ☒ 3.
- ☒ 4.

Question ID : 630680938027
Option 1 ID : 6306803676585
Option 2 ID : 6306803676588
Option 3 ID : 6306803676587
Option 4 ID : 6306803676586

Q.19 Which figure is similar to the given figures?



Ans



Question ID : 630680938109
Option 1 ID : 6306803676913
Option 2 ID : 6306803676915
Option 3 ID : 6306803676914
Option 4 ID : 6306803676916

Q.20 A series is given with one term missing. Select the correct alternative from the given ones that will complete the series.

NF, MH, ?, KL, JN

Ans ✓ 1. LJ

✗ 2. OK

✗ 3. JE

✗ 4. IG

Question ID : 630680938224
Option 1 ID : 6306803677376
Option 2 ID : 6306803677375
Option 3 ID : 6306803677374
Option 4 ID : 6306803677373

Q.1 दाँत का इनैमल निम्नलिखित में से किससे बना होता है?

- Ans ☒ 1. कैल्शियम हाइड्रॉक्सीएपेटाइट
☒ 2. मैग्नेशियम हाइड्रॉक्साइड
☒ 3. कार्बोनिल सल्फाइड
☒ 4. मैग्नीशियम सल्फेट

Question ID : 630680939345
 Option 1 ID : 6306803681803
 Option 2 ID : 6306803681804
 Option 3 ID : 6306803681805
 Option 4 ID : 6306803681806

Q.2 Paruveta Utsavam-Ahobilam is celebrated in which of the following states of India?

- Ans ☒ 1. Arunachal Pradesh
☒ 2. Gujarat
☒ 3. Madhya Pradesh
☒ 4. Andhra Pradesh

Question ID : 630680939612
 Option 1 ID : 6306803682871
 Option 2 ID : 6306803682874
 Option 3 ID : 6306803682872
 Option 4 ID : 6306803682873

Q.3 Which Indian state's drug control department has launched Operation Amrith to check antibiotics abuse in January 2024?

- Ans ☒ 1. Kerala
☒ 2. Gujarat
☒ 3. Maharashtra
☒ 4. Goa

Question ID : 630680939357
 Option 1 ID : 6306803681851
 Option 2 ID : 6306803681854
 Option 3 ID : 6306803681853
 Option 4 ID : 6306803681852

Q.4 State Wide Attention on Grievances by Application of Technology (SWAGAT), which completed 20 years in 2023, it is an initiative of which of the following states in India?

- Ans ☒ 1. Madhya Pradesh
☒ 2. Gujarat
☒ 3. Haryana
☒ 4. Uttar Pradesh

Question ID : 630680939317
 Option 1 ID : 6306803681691
 Option 2 ID : 6306803681692
 Option 3 ID : 6306803681694
 Option 4 ID : 6306803681693

Q.5 Karaivetti bird sanctuary, which has been included in the Ramsar list of wetlands in 2024, is located in which state of India?

- Ans
- ☒ 1. Assam
 - ☒ 2. Goa
 - ☒ 3. Tamil Nadu
 - ☒ 4. Sikkim

Question ID : 630680939393
Option 1 ID : 6306803681996
Option 2 ID : 6306803681997
Option 3 ID : 6306803681998
Option 4 ID : 6306803681995

Q.6 The first book of Mizo language titled 'Mizo Zir Tir Bu' was published in which of the following year?

- Ans
- ☒ 1. 1833
 - ☒ 2. 1896
 - ☒ 3. 1801
 - ☒ 4. 1925

Question ID : 630680939407
Option 1 ID : 6306803682052
Option 2 ID : 6306803682053
Option 3 ID : 6306803682051
Option 4 ID : 6306803682054

Q.7 Who became the President of Argentina in November 2023?

- Ans
- ☒ 1. Daniel Noboa
 - ☒ 2. Javier Milei
 - ☒ 3. Nicolas Maduro
 - ☒ 4. Gabriel Boric

Question ID : 630680939590
Option 1 ID : 6306803682783
Option 2 ID : 6306803682784
Option 3 ID : 6306803682785
Option 4 ID : 6306803682786

Q.8 Who among the following developed the world's first successful vaccine?

- Ans
- ☒ 1. Blaise Pascal
 - ☒ 2. Alan Turing
 - ☒ 3. Theodore Case
 - ☒ 4. Edward Jenner

Question ID : 630680939389
Option 1 ID : 6306803681982
Option 2 ID : 6306803681979
Option 3 ID : 6306803681980
Option 4 ID : 6306803681981

Q.9 Who among the following launched the "Marketing and Logistics Development for Promotion of Tribal Products from North-Eastern Region (PTP-NER)" scheme in Manipur in April 2023?

- Ans**
- ☐ 1. Mukhtar Abbas Naqvi
 - ☒ 2. Arjun Munda
 - ☐ 3. Parshottam Rupala
 - ☐ 4. Pashu Pati Kumar Paras

Question ID : 630680939476
Option 1 ID : 6306803682327
Option 2 ID : 6306803682328
Option 3 ID : 6306803682330
Option 4 ID : 6306803682329

Q.10 Mopin festival is celebrated by the tribal people of which state?

- Ans**
- ☐ 1. Assam
 - ☐ 2. Madhya Pradesh
 - ☐ 3. Andhra Pradesh
 - ☒ 4. Arunachal Pradesh

Question ID : 630680939531
Option 1 ID : 6306803682549
Option 2 ID : 6306803682548
Option 3 ID : 6306803682547
Option 4 ID : 6306803682550

Q.11 In June 2023, which of the following became the first oil marketing company in India to launch a pilot study on E27 fuel and ethanol blended diesel fuel?

- Ans**
- ☒ 1. Hindustan Petroleum Corporation Limited (HPCL)
 - ☐ 2. Indian Oil Corporation Limited (IOCL)
 - ☐ 3. Oil and Natural Gas Corporation (ONGC)
 - ☐ 4. Gas Authority of India (GAIL)

Question ID : 630680939439
Option 1 ID : 6306803682182
Option 2 ID : 6306803682179
Option 3 ID : 6306803682181
Option 4 ID : 6306803682180

Q.12 In May 2023, the President of India launched the 'Addiction Free' campaign for which state?

- Ans**
- ☒ 1. Odisha
 - ☐ 2. Assam
 - ☐ 3. Kerala
 - ☐ 4. Sikkim

Question ID : 630680939356
Option 1 ID : 6306803681850
Option 2 ID : 6306803681848
Option 3 ID : 6306803681849
Option 4 ID : 6306803681847

Q.13 The Kottigehar dancing frog of the Western Ghats falls into which of the following categories of the IUCN threatened species list?

- Ans
- ☒ 1. Extinct in the Wild
 - ☒ 2. Vulnerable
 - ☒ 3. Critically Endangered
 - ☒ 4. Least Concern

Question ID : 630680939352
Option 1 ID : 6306803681831
Option 2 ID : 6306803681832
Option 3 ID : 6306803681834
Option 4 ID : 6306803681833

Q.14 Konkani is a major language spoken in which of the following states of India?

- Ans
- ☒ 1. Andhra Pradesh
 - ☒ 2. Goa
 - ☒ 3. Sikkim
 - ☒ 4. Kerala

Question ID : 630680939369
Option 1 ID : 6306803681900
Option 2 ID : 6306803681902
Option 3 ID : 6306803681899
Option 4 ID : 6306803681901

Q.15 Which of the following is a hormone which regulates blood glucose level in the body?

- Ans
- ☒ 1. Pepsin
 - ☒ 2. Trypsin
 - ☒ 3. Insulin
 - ☒ 4. Rennin

Question ID : 630680939625
Option 1 ID : 6306803682925
Option 2 ID : 6306803682923
Option 3 ID : 6306803682926
Option 4 ID : 6306803682924

Q.16 Satwiksairaj Rankireddy, seen in the news for his Guinness record in July 2023, is associated with which sports discipline?

- Ans
- ☒ 1. Cricket
 - ☒ 2. Hockey
 - ☒ 3. Chess
 - ☒ 4. Badminton

Question ID : 630680939511
Option 1 ID : 6306803682470
Option 2 ID : 6306803682469
Option 3 ID : 6306803682467
Option 4 ID : 6306803682468

Q.17 Which of the following languages spoken in India is a language of the Austric family?

- Ans
- ☒ 1. Kui
 - ☒ 2. Konda
 - ☒ 3. Munda
 - ☒ 4. Gondi

Question ID : 630680939489
Option 1 ID : 6306803682382
Option 2 ID : 6306803682381
Option 3 ID : 6306803682380
Option 4 ID : 6306803682379

Q.18 Samarth was a demand-driven and placement-oriented umbrella skill program of the Ministry of Textiles. The implementation period of the scheme was till which of the following year?

- Ans
- ☒ 1. March 2023
 - ☒ 2. December 2024
 - ☒ 3. March 2024
 - ☒ 4. December 2023

Question ID : 630680939594
Option 1 ID : 6306803682800
Option 2 ID : 6306803682801
Option 3 ID : 6306803682799
Option 4 ID : 6306803682802

Q.19 Contaminated water and poor sanitation are NOT associated with the transmission of which of the following diseases?

- Ans
- ☒ 1. Hepatitis A
 - ☒ 2. Diabetes
 - ☒ 3. Polio
 - ☒ 4. Typhoid

Question ID : 630680939469
Option 1 ID : 6306803682299
Option 2 ID : 6306803682300
Option 3 ID : 6306803682302
Option 4 ID : 6306803682301

Q.20 Who among the following was the author of "Ashtadhyayi"?

- Ans
- ☒ 1. Bharata Muni
 - ☒ 2. Amarasimha
 - ☒ 3. Kalidasa
 - ☒ 4. Panini

Question ID : 630680939487
Option 1 ID : 6306803682374
Option 2 ID : 6306803682372
Option 3 ID : 6306803682371
Option 4 ID : 6306803682373

Section : General Awareness 2

Q.1 Which of the following states does NOT have a bicameral legislature?

- Ans
- ☒ 1. Tamil Nadu
 - ☐ 2. Bihar
 - ☐ 3. Karnataka
 - ☐ 4. Andhra Pradesh

Question ID : 630680939583
Option 1 ID : 6306803682755
Option 2 ID : 6306803682757
Option 3 ID : 6306803682758
Option 4 ID : 6306803682756

Q.2 How many Articles of the Indian Constitution deals with right to equality?

- Ans
- ☐ 1. 3
 - ☒ 2. 5
 - ☐ 3. 2
 - ☐ 4. 4

Question ID : 630680939340
Option 1 ID : 6306803681784
Option 2 ID : 6306803681786
Option 3 ID : 6306803681783
Option 4 ID : 6306803681785

Q.3 Which of the following plants are those in which ovules are not enclosed by an ovary wall?

- Ans
- ☐ 1. Bryophytes
 - ☒ 2. Gymnosperms
 - ☐ 3. Pteridophytes
 - ☐ 4. Angiosperms

Question ID : 630680939506
Option 1 ID : 6306803682450
Option 2 ID : 6306803682449
Option 3 ID : 6306803682448
Option 4 ID : 6306803682447

Q.4 A motion containing the charges against the judge must be approved by _____ in both Houses of the Parliament of India.

- Ans
- ☐ 1. absolute majority
 - ☐ 2. simple majority
 - ☐ 3. effective majority
 - ☒ 4. special majority

Question ID : 630680939461
Option 1 ID : 6306803682270
Option 2 ID : 6306803682267
Option 3 ID : 6306803682269
Option 4 ID : 6306803682268

Q.5 Which of the following writ means that the court orders that the arrested person should be presented before it?

- Ans
- ☒ 1. Certiorari
 - ☒ 2. Habeas corpus
 - ☒ 3. Mandamus
 - ☒ 4. Prohibition

Question ID : 630680939459
Option 1 ID : 6306803682262
Option 2 ID : 6306803682259
Option 3 ID : 6306803682260
Option 4 ID : 6306803682261

Q.6 Which of the following is NOT included in Capital Expenditure?

- Ans
- ☒ 1. Investment in shares
 - ☒ 2. Expenditure on the acquisition of land
 - ☒ 3. Loans and advances by the central government to state governments
 - ☒ 4. Subsidies

Question ID : 630680939361
Option 1 ID : 6306803681868
Option 2 ID : 6306803681867
Option 3 ID : 6306803681870
Option 4 ID : 6306803681869

Q.7 Which of the following was the adult literacy rate for women in rural areas as per Census of India 2011?

- Ans
- ☒ 1. 50.6
 - ☒ 2. 65.4
 - ☒ 3. 72.9
 - ☒ 4. 58.5

Question ID : 630680939618
Option 1 ID : 6306803682898
Option 2 ID : 6306803682896
Option 3 ID : 6306803682895
Option 4 ID : 6306803682897

Q.8 Who among the following addressed the world parliament of religions at Chicago in 1893?

- Ans
- ☒ 1. Ishwar Chandra Vidyasagar
 - ☒ 2. Swami Vivekananda
 - ☒ 3. Raja Rammohun Roy
 - ☒ 4. Swami Dayanand Saraswati

Question ID : 630680939403
Option 1 ID : 6306803682037
Option 2 ID : 6306803682038
Option 3 ID : 6306803682036
Option 4 ID : 6306803682035

Q.9 Which of the following hills are correctly arranged from west to east?

- Ans ☒ 1. Garo Hills, Khasi Hills and Jaintia Hills
☒ 2. Jaintia Hills, Garo Hills and Khasi Hills
☒ 3. Khasi Hills, Jaintia Hills, and Garo Hills
☒ 4. Garo Hills, Jaintia Hills and Khasi Hills

Question ID : 630680939333
 Option 1 ID : 6306803681755
 Option 2 ID : 6306803681757
 Option 3 ID : 6306803681756
 Option 4 ID : 6306803681758

Q.10 Who among the following was the ruler of Delhi during the period 1351–1388?

- Ans ☒ 1. Ghiyasuddin Balban
☒ 2. Firuz Shah Tughluq
☒ 3. Ghiyasuddin Tughluq
☒ 4. Muhammad Tughluq

Question ID : 630680939565
 Option 1 ID : 6306803682685
 Option 2 ID : 6306803682686
 Option 3 ID : 6306803682683
 Option 4 ID : 6306803682684

Q.11 By what name are local hot weather storms known in Assam?

- Ans ☒ 1. Blossom Shower
☒ 2. Bardoli Chheerha
☒ 3. Loo
☒ 4. Mango Shower

Question ID : 630680939576
 Option 1 ID : 6306803682727
 Option 2 ID : 6306803682730
 Option 3 ID : 6306803682729
 Option 4 ID : 6306803682728

Q.12 Which of the following statements is NOT correct about Luni River?

- Ans ☒ 1. The entire river system is ephemeral.
☒ 2. It originates from two branches near Govindgarh.
☒ 3. The names of its two branches are Saraswati and Sabarmati.
☒ 4. The Luni, west of the Aravali, is the largest river system of Rajasthan.

Question ID : 630680939454
 Option 1 ID : 6306803682240
 Option 2 ID : 6306803682241
 Option 3 ID : 6306803682242
 Option 4 ID : 6306803682239

Q.13 In which city of India is the headquarters of Indian Farmers Fertilizer Cooperative Limited (IFFCO) located?

- Ans
- ☐ 1. Lucknow
 - ☒ 2. New Delhi
 - ☐ 3. Chandigarh
 - ☐ 4. Mumbai

Question ID : 630680939322
Option 1 ID : 6306803681714
Option 2 ID : 6306803681711
Option 3 ID : 6306803681712
Option 4 ID : 6306803681713

Q.14 Who among the following proposed the double-helix model for the structure of DNA?

- I. James Watson
- II. Francis Crick

- Ans
- ☐ 1. Only II
 - ☒ 2. Both I and II
 - ☐ 3. Only I
 - ☐ 4. Neither I nor II

Question ID : 630680939347
Option 1 ID : 6306803681812
Option 2 ID : 6306803681813
Option 3 ID : 6306803681811
Option 4 ID : 6306803681814

Q.15 Mahananda is a tributary of which river?

- Ans
- ☐ 1. Ghaghara
 - ☒ 2. Ganga
 - ☐ 3. Kosi
 - ☐ 4. Yamuna

Question ID : 630680939415
Option 1 ID : 6306803682083
Option 2 ID : 6306803682086
Option 3 ID : 6306803682085
Option 4 ID : 6306803682084

Q.16 In which of the following years the nationalization of 14 major commercial banks in India took place?

- Ans
- ☐ 1. 1979
 - ☐ 2. 1989
 - ☐ 3. 1959
 - ☒ 4. 1969

Question ID : 630680939362
Option 1 ID : 6306803681873
Option 2 ID : 6306803681874
Option 3 ID : 6306803681871
Option 4 ID : 6306803681872

Q.17 The power of the Governor to promulgate Ordinances during recess of Legislature is related to which Article of the Indian Constitution?

- Ans ☒ 1. Article 213
- ☐ 2. Article 108
- ☐ 3. Article 199
- ☐ 4. Article 148

Question ID : 630680939503
Option 1 ID : 6306803682438
Option 2 ID : 6306803682435
Option 3 ID : 6306803682437
Option 4 ID : 6306803682436

Q.18 In which of the following year the Age specific sex ratios began to be computed in India?

- Ans ☒ 1. 1961
- ☐ 2. 1941
- ☐ 3. 1991
- ☐ 4. 1981

Question ID : 630680939497
Option 1 ID : 6306803682412
Option 2 ID : 6306803682411
Option 3 ID : 6306803682414
Option 4 ID : 6306803682413

Q.19 For centuries, rulers belonging to the Gurjara-Pratihara, Rashtrakuta and Pala dynasties fought for control over _____.

- Ans ☐ 1. Ujjain
- ☐ 2. Somnath
- ☒ 3. Kanauj
- ☐ 4. Uraiyur

Question ID : 630680939486
Option 1 ID : 6306803682367
Option 2 ID : 6306803682369
Option 3 ID : 6306803682370
Option 4 ID : 6306803682368

Q.20 Who among the following addressed the Congress as President in 1887?

- Ans ☐ 1. Romesh Chandra Dutt
- ☐ 2. Dadabhai Naoroji
- ☒ 3. Badruddin Tyabji
- ☐ 4. Pherozeshah Mehta

Question ID : 630680939484
Option 1 ID : 6306803682362
Option 2 ID : 6306803682360
Option 3 ID : 6306803682359
Option 4 ID : 6306803682361

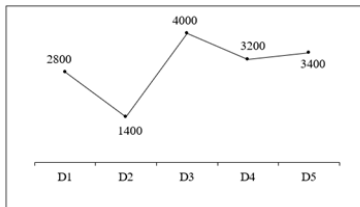
Section : Arithmetical and Numerical Ability 1

Q.1 What is the unit digit of 52^{52} ?

- Ans
- ☐ 1. 4
 - ☐ 2. 8
 - ☐ 3. 2
 - ☒ 4. 6

Question ID : 630680937702
Option 1 ID : 6306803675290
Option 2 ID : 6306803675292
Option 3 ID : 6306803675289
Option 4 ID : 6306803675291

Q.2 The line chart given below shows the number of trucks crossed XYZ state border on given 5 days.



Number of trucks crossed border on day D1 is what percent of the number of trucks that crossed border on day D4?

- Ans
- ☐ 1. 48 percent
 - ☐ 2. 42.5 percent
 - ☐ 3. 90 percent
 - ☒ 4. 87.5 percent

Question ID : 630680937699
Option 1 ID : 6306803675280
Option 2 ID : 6306803675279
Option 3 ID : 6306803675278
Option 4 ID : 6306803675277

Q.3 What will be the net discount percentage for three successive discounts of 7 percent, 5 percent and 10 percent?

- Ans
- ☐ 1. 21.685 percent
 - ☒ 2. 20.485 percent
 - ☐ 3. 23.785 percent
 - ☐ 4. 19.565 percent

Question ID : 630680937715
Option 1 ID : 6306803675344
Option 2 ID : 6306803675343
Option 3 ID : 6306803675341
Option 4 ID : 6306803675342

Q.4 If $\frac{3}{11}$ of 44 percent of a number is 480, then what is the number?

- Ans
- ☐ 1. 4100
 - ☒ 2. 4000
 - ☐ 3. 4210
 - ☐ 4. 4010

Question ID : 630680937509
Option 1 ID : 6306803674518
Option 2 ID : 6306803674519
Option 3 ID : 6306803674520
Option 4 ID : 6306803674517

Q.5 What is the value of $11^3 + 12^3 + 13^3 + \underline{\hspace{2cm}} + 20^3$?

- Ans
- ☐ 1. 41055
 - ☒ 2. 41075
 - ☐ 3. 41035
 - ☐ 4. 41085

Question ID : 630680937665
Option 1 ID : 6306803675144
Option 2 ID : 6306803675141
Option 3 ID : 6306803675143
Option 4 ID : 6306803675142

Q.6 The following table shows the number of watches sold by two shops A and B for a period of six years.

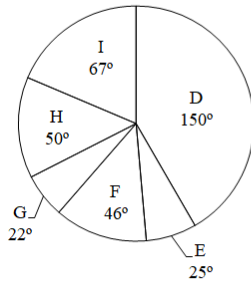
Year	A	B
2017	709	365
2018	830	592
2019	786	258
2020	620	280
2021	470	415
2022	985	890

What is the average number of watches sold by shops A and B in 2020?

- Ans
- ☐ 1. 420
 - ☒ 2. 450
 - ☐ 3. 410
 - ☐ 4. 460

Question ID : 630680937739
Option 1 ID : 6306803675438
Option 2 ID : 6306803675437
Option 3 ID : 6306803675439
Option 4 ID : 6306803675440

Q.7 The pie chart given below shows the number of trucks manufactured by six companies in a year in terms of the sectoral angles representing the shares of these companies in the total number of trucks manufactured by all of them taken together. The total number of trucks manufactured by all these six companies is 1800.



The total number of trucks manufactured by D and F, taken together, is approximately what percent of the total number of trucks manufactured by G and I, taken together?

- Ans**
- ☒ 1. 260.44 percent
 - ☒ 2. 140.22 percent
 - ☒ 3. 220.22 percent
 - ☒ 4. 234.33 percent

Question ID : 630680937660
Option 1 ID : 6306803675124
Option 2 ID : 6306803675122
Option 3 ID : 6306803675123
Option 4 ID : 6306803675121

Q.8 What is the value of $(72 \div 9 \times 7 + 3) - (36 \div 6 \times 2 - 4) + (13 \times 2 + 6)$?

- Ans**
- ☒ 1. 96
 - ☒ 2. 87
 - ☒ 3. 91
 - ☒ 4. 83

Question ID : 630680937546
Option 1 ID : 6306803674668
Option 2 ID : 6306803674666
Option 3 ID : 6306803674667
Option 4 ID : 6306803674665

Q.9 What is the value of $6 \times 0.5 + 4.5 \times 0.8 + 7.5 \times 0.2$?

- Ans**
- ☒ 1. 12.5
 - ☒ 2. 8.1
 - ☒ 3. 34.1
 - ☒ 4. 18.1

Question ID : 630680937785
Option 1 ID : 6306803675622
Option 2 ID : 6306803675624
Option 3 ID : 6306803675623
Option 4 ID : 6306803675621

Q.10 Lucky's income is 60 percent more than Rohit's income, Rohit's income is 40 percent more than Raju's income, and Raju's income is 25 percent less than Vikas's income. If the income of Vikas is Rs. 12000, then what is the income of Lucky?

- Ans**
- ☒ 1. Rs. 16800
 - ☒ 2. Rs. 20160
 - ☒ 3. Rs. 21600
 - ☒ 4. Rs. 19600

Question ID : 630680937671
Option 1 ID : 6306803675167
Option 2 ID : 6306803675168
Option 3 ID : 6306803675165
Option 4 ID : 6306803675166

Q.11 Which of the following is the greatest?

- Ans**
- ☒ 1. $\sqrt[4]{7}$
 - ☒ 2. $\sqrt{5}$
 - ☒ 3. $\sqrt[12]{2}$
 - ☒ 4. $\sqrt[3]{3}$

Question ID : 630680937547
Option 1 ID : 6306803674671
Option 2 ID : 6306803674670
Option 3 ID : 6306803674672
Option 4 ID : 6306803674669

Q.12 The average of h, i, j and k is 75. If the average of h and i is 25, then what will be the average of j and k?

- Ans**
- ☒ 1. 165
 - ☒ 2. 150
 - ☒ 3. 125
 - ☒ 4. 160

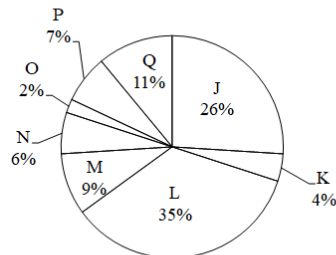
Question ID : 630680937532
Option 1 ID : 6306803674612
Option 2 ID : 6306803674609
Option 3 ID : 6306803674611
Option 4 ID : 6306803674610

Q.13 The difference between compound interest (compounding annually) and simple interest on a certain sum for 2 years at the rate of 10 percent per annum is Rs. 360. If the interest is compounded half yearly, then what will be the difference between compound interest and simple interest on the same sum for one year at 10 percent interest per annum?

- Ans**
- ☒ 1. Rs. 75
 - ☒ 2. Rs. 110
 - ☒ 3. Rs. 100
 - ☒ 4. Rs. 90

Question ID : 630680937577
Option 1 ID : 6306803674789
Option 2 ID : 6306803674790
Option 3 ID : 6306803674792
Option 4 ID : 6306803674791

Q.14 The pie chart given below shows the number of truck sold by 8 different companies (i.e., J, K, L, M, N, O, P and Q). The total number of truck sold by all these 8 companies are 12000. The number of truck sold by a particular company is shown as a percentage of total number of truck sold by all these 8 companies.



Which of the following statement is correct?

- I. The ratio of average number of trucks sold by J and K to the average number of trucks sold by L and Q is 15 : 24.
- II. The total number of trucks sold by M, N, O and P is 2880.

- Ans**
- ☒ 1. Neither I nor II
 - ☒ 2. Only II
 - ☒ 3. Only I
 - ☒ 4. Both I and II

Question ID : 630680937701
Option 1 ID : 6306803675288
Option 2 ID : 6306803675286
Option 3 ID : 6306803675285
Option 4 ID : 6306803675287

Q.15 What is the average of the cubes of the first 24 natural numbers?

- Ans**
- ☒ 1. 3950
 - ☒ 2. 3750
 - ☒ 3. 3800
 - ☒ 4. 3650

Question ID : 630680937531
Option 1 ID : 6306803674608
Option 2 ID : 6306803674606
Option 3 ID : 6306803674607
Option 4 ID : 6306803674605

Q.16 The average marks obtained by 90 students who appeared in an examination is 45. If the average marks of the students who passed is 80 and the average marks of the students who failed is 35, then what is the number of students who failed in the examination?

- Ans**
- ☒ 1. 55
 - ☒ 2. 70
 - ☒ 3. 60
 - ☒ 4. 45

Question ID : 630680937493
Option 1 ID : 6306803674453
Option 2 ID : 6306803674455
Option 3 ID : 6306803674456
Option 4 ID : 6306803674454

Q.17 A principal is lent at a certain rate of compound interest (compounding annually). The amount at the end of 2 years is Rs. 22500 and at the end of 3 years is Rs. 33750. What is the principal?

- Ans**
- ☒ 1. Rs. 13000
 - ☒ 2. Rs. 12700
 - ☒ 3. Rs. 12500
 - ☒ 4. Rs. 10000

Question ID : 630680937496
Option 1 ID : 6306803674468
Option 2 ID : 6306803674467
Option 3 ID : 6306803674466
Option 4 ID : 6306803674465

Q.18 If 88 is subtracted from 24 percent of a number, then the result is 1256. What is the value of the number?

- Ans**
- ☒ 1. 5500
 - ☒ 2. 5400
 - ☒ 3. 5800
 - ☒ 4. 5600

Question ID : 630680937789
Option 1 ID : 6306803675638
Option 2 ID : 6306803675637
Option 3 ID : 6306803675640
Option 4 ID : 6306803675639

Q.19 Hiten marks his pen at Rs. 1200 and after allowing a discount of 30 percent, he still earns 20 percent as profit. What is the cost price of the pen?

- Ans**
- ✓ 1. Rs. 700
 - ✗ 2. Rs. 720
 - ✗ 3. Rs. 600
 - ✗ 4. Rs. 840

Question ID : 630680937674
Option 1 ID : 6306803675178
Option 2 ID : 6306803675177
Option 3 ID : 6306803675180
Option 4 ID : 6306803675179

Q.20 What is the value of $(3 \times 2 \times 4 \times 5) - (3 \times 7 \times 2)$?

- Ans**
- ✗ 1. 76
 - ✗ 2. 82
 - ✗ 3. 74
 - ✓ 4. 78

Question ID : 630680937622
Option 1 ID : 6306803674970
Option 2 ID : 6306803674972
Option 3 ID : 6306803674969
Option 4 ID : 6306803674971

Section : Arithmetical and Numerical Ability 2

Q.1 The ratio of the sides of a triangle is 9 : 9 : 2. If the area of triangle is $16\sqrt{5} \text{ cm}^2$, then what is the length of each of the two equal sides?

- Ans**
- ✓ 1. 18 cm
 - ✗ 2. 9 cm
 - ✗ 3. 16 cm
 - ✗ 4. 7 cm

Question ID : 630680937610
Option 1 ID : 6306803674922
Option 2 ID : 6306803674923
Option 3 ID : 6306803674921
Option 4 ID : 6306803674924

Q.2 A box consist of 5 rupees, 2 rupees and 1 rupee coins and their total values are in the ratio of 20 : 10 : 3 respectively. If there are total 96 coins, then how many 2 rupees coins are there in the box?

- Ans**
- ☒ 1. 32
 - ☒ 2. 40
 - ☒ 3. 24
 - ☒ 4. 48

Question ID : 630680937799
 Option 1 ID : 6306803675679
 Option 2 ID : 6306803675678
 Option 3 ID : 6306803675680
 Option 4 ID : 6306803675677

Q.3 If the area of a circle inscribed in a square is $8\pi \text{ cm}^2$, then what will be the area of the square?

- Ans**
- ☒ 1. 32 cm^2
 - ☒ 2. 46 cm^2
 - ☒ 3. 28 cm^2
 - ☒ 4. 16 cm^2

Question ID : 630680937650
 Option 1 ID : 6306803675083
 Option 2 ID : 6306803675084
 Option 3 ID : 6306803675082
 Option 4 ID : 6306803675081

Q.4 If a person earns 12.5 percent profit on selling price, then what will be his profit percentage on cost price? [Give your answer correct to two decimal places.]

- Ans**
- ☒ 1. 20.00 percent
 - ☒ 2. 12.50 percent
 - ☒ 3. 15.75 percent
 - ☒ 4. 14.29 percent

Question ID : 630680937512
 Option 1 ID : 6306803674532
 Option 2 ID : 6306803674530
 Option 3 ID : 6306803674531
 Option 4 ID : 6306803674529

Q.5 Three numbers are in the ratio of 6 : 5 : 10. If the sum of the largest and the smallest numbers is 7500, then what is the difference between the largest and the smallest numbers?

- Ans**
- ✓ 1. 2500
 - ✗ 2. 2000
 - ✗ 3. 1500
 - ✗ 4. 3000

Question ID : 630680937677
Option 1 ID : 6306803675190
Option 2 ID : 6306803675189
Option 3 ID : 6306803675192
Option 4 ID : 6306803675191

Q.6 If the radius of a cylinder is increased by 50 percent, then by how much percent its height must be reduced, so that the volume of the cylinder remains same?

- Ans**
- ✗ 1. 59.44 percent
 - ✓ 2. 55.56 percent
 - ✗ 3. 63.78 percent
 - ✗ 4. 48.67 percent

Question ID : 630680937725
Option 1 ID : 6306803675384
Option 2 ID : 6306803675383
Option 3 ID : 6306803675382
Option 4 ID : 6306803675381

Q.7 If both length and breadth of a cuboid are increased by 25 percent, then by what percent should its height be reduced so that its volume remains unchanged?

- Ans**
- ✗ 1. 28 percent
 - ✗ 2. 42 percent
 - ✓ 3. 36 percent
 - ✗ 4. 32 percent

Question ID : 630680937525
Option 1 ID : 6306803674581
Option 2 ID : 6306803674583
Option 3 ID : 6306803674582
Option 4 ID : 6306803674584

Q.8 The sum of the length, the breadth and the height of a cuboid is 18 cm. If its diagonal is 11 cm long, then what is the total surface area of the cuboid?

- Ans**
- ☒ 1. 275 cm^2
 - ☒ 2. 139 cm^2
 - ☒ 3. 203 cm^2
 - ☒ 4. 171 cm^2

Question ID : 630680937605
Option 1 ID : 6306803674904
Option 2 ID : 6306803674901
Option 3 ID : 6306803674903
Option 4 ID : 6306803674902

Q.9 The ratio of three numbers is 8 : 10 : 11. If the sum of the three numbers is 145, then what is the smallest number among the three numbers?

- Ans**
- ☒ 1. 40
 - ☒ 2. 50
 - ☒ 3. 35
 - ☒ 4. 60

Question ID : 630680937756
Option 1 ID : 6306803675508
Option 2 ID : 6306803675505
Option 3 ID : 6306803675506
Option 4 ID : 6306803675507

Q.10 Three partners A, B and C share profit such that 3 times of the A's share is equal to 6 times of the B's share and also equal to 12 times of the C's share. What is the ratio of the profits of A, B and C respectively?

- Ans**
- ☒ 1. 4 : 2 : 1
 - ☒ 2. 4 : 2 : 5
 - ☒ 3. 4 : 2 : 7
 - ☒ 4. 4 : 2 : 3

Question ID : 630680937518
Option 1 ID : 6306803674554
Option 2 ID : 6306803674556
Option 3 ID : 6306803674555
Option 4 ID : 6306803674553

Q.11 The lengths of the two parallel sides of a trapezium are 100 cm and 150 cm respectively. If the distance between its parallel sides is 24 cm, then what is its area?

- Ans**
- ☒ 1. 2000 cm²
 - ☒ 2. 4000 cm²
 - ☒ 3. 1500 cm²
 - ☒ 4. 3000 cm²

Question ID : 630680937689
Option 1 ID : 6306803675240
Option 2 ID : 6306803675237
Option 3 ID : 6306803675239
Option 4 ID : 6306803675238

Q.12 X, Y and Z can complete a piece of work in 15 days, 18 days, and 22.5 days respectively. All three of them started the work together but after 5 days X left the work and Y left the work 1 day before the work was completed. Z completed the remaining work alone. In how many days was the total work completed?

- Ans**
- ☒ 1. 87/9 days
 - ☒ 2. 65/9 days
 - ☒ 3. 20/9 days
 - ☒ 4. 66/7 days

Question ID : 630680937681
Option 1 ID : 6306803675205
Option 2 ID : 6306803675207
Option 3 ID : 6306803675206
Option 4 ID : 6306803675208

Q.13 A person borrows some money for 8 years at a certain rate of simple interest. If the ratio of principal and total interest is 5 : 2, then what is the annual rate of interest?

- Ans**
- ☒ 1. 8 percent
 - ☒ 2. 12 percent
 - ☒ 3. 7 percent
 - ☒ 4. 5 percent

Question ID : 630680937494
Option 1 ID : 6306803674459
Option 2 ID : 6306803674460
Option 3 ID : 6306803674457
Option 4 ID : 6306803674458

Q.14 A train moving with the speed of 30 km/hr crosses a platform in 16 minutes. If the length of the train and the platform is same, then what is the length of the platform?

- Ans**
- ☒ 1. 4500 metres
 - ☒ 2. 2800 metres
 - ☒ 3. 3200 metres
 - ☒ 4. 4000 metres

Question ID : 630680937762
Option 1 ID : 6306803675532
Option 2 ID : 6306803675529
Option 3 ID : 6306803675530
Option 4 ID : 6306803675531

Q.15 If the length of the side of a square increase by R percent, then the area of the square increases by 96 percent. What is the value of R?

- Ans**
- ☒ 1. 40 Percent
 - ☒ 2. 20 Percent
 - ☒ 3. 60 Percent
 - ☒ 4. 80 Percent

Question ID : 630680937670
Option 1 ID : 6306803675162
Option 2 ID : 6306803675161
Option 3 ID : 6306803675163
Option 4 ID : 6306803675164

Q.16 Mohan bought a new cycle from the showroom and after one year he sold it to Shyam at a profit of 20 percent. Shyam sold the same cycle to Sumit at the loss of 40 percent. Finally Sumit paid Rs. 57600 for this cycle. At what price Mohan bought the cycle?

- Ans**
- ☒ 1. Rs. 88000
 - ☒ 2. Rs. 80000
 - ☒ 3. Rs. 90000
 - ☒ 4. Rs. 85000

Question ID : 630680937513
Option 1 ID : 6306803674535
Option 2 ID : 6306803674534
Option 3 ID : 6306803674536
Option 4 ID : 6306803674533

Q.17 Vijay's efficiency is 190 percent of Vinod's efficiency. If Vijay alone can complete a work in 29 days, then how many days will they together take to complete the same work?

- Ans**
- ☒ 1. 29 days
 - ☒ 2. 25 days
 - ☒ 3. 27 days
 - ☒ 4. 19 days

Question ID : 630680937520
Option 1 ID : 6306803674563
Option 2 ID : 6306803674561
Option 3 ID : 6306803674564
Option 4 ID : 6306803674562

Q.18 Two stations G and H are 845 km apart from each other. A train leaves from G to H and simultaneously another train leaves from H to G. Both trains meet after 13 hours. If the speed of the first train is 5 km/hr more than the second train, then what is the speed of the slower train?

- Ans**
- ☒ 1. 42 km/hr
 - ☒ 2. 36 km/hr
 - ☒ 3. 30 km/hr
 - ☒ 4. 24 km/hr

Question ID : 630680937764
Option 1 ID : 6306803675538
Option 2 ID : 6306803675540
Option 3 ID : 6306803675539
Option 4 ID : 6306803675537

Q.19 A person lent Rs. 20000 to B for 3 years and Rs. 16000 to C for 4 years at the same rate of simple interest and received a total of Rs. 9300 from them as interest. What was the annual rate of interest?

- Ans**
- ☒ 1. 9 percent
 - ☒ 2. 8 percent
 - ☒ 3. 9.5 percent
 - ☒ 4. 7.5 percent

Question ID : 630680937535
Option 1 ID : 6306803674623
Option 2 ID : 6306803674622
Option 3 ID : 6306803674624
Option 4 ID : 6306803674621

Q.20 The speed of a stream is 6 km/hr and the speed of a boat in still water is 18 km/hr. How much total time will the boat take to cover the distance of 6 km upstream and 12 km downstream?

- Ans**
- ☒ 1. 2 hours
 - ☒ 2. 4.5 hours
 - ☒ 3. 0.5 hour
 - ☒ 4. 1 hour

Question ID : 630680937523
Option 1 ID : 6306803674574
Option 2 ID : 6306803674573
Option 3 ID : 6306803674575
Option 4 ID : 6306803674576

Section : Test of English Language and Comprehension 1

Q.1 Fill in the blank with the correct conjunction:

You can have cake _____ ice cream for dessert. Both would be too much.

- Ans**
- ☒ 1. nor
 - ☒ 2. and
 - ☒ 3. but
 - ☒ 4. or

Question ID : 630680938350
Option 1 ID : 6306803677866
Option 2 ID : 6306803677863
Option 3 ID : 6306803677864
Option 4 ID : 6306803677865

Q.2 Rearrange the following sentences to form a coherent paragraph and choose the correct sequence from the options given below:

- A. He is also known for his outspoken views on various social and political issues, such as net neutrality, artificial intelligence, cryptocurrency, and health care.
- B. Mark Cuban is an American billionaire entrepreneur, investor, media personality, and owner of the Dallas Mavericks, a professional basketball team in the National Basketball Association (NBA).
- C. He began his career as a software developer and founded several successful companies, such as Micro Solutions, Broadcast.com, and HDNet, before becoming an influential figure in the tech industry.
- D. He is also one of the main "shark" investors on the ABC reality television series, Shark Tank, where he invests in various startups and small businesses.

- Ans**
- ☒ 1. CBAD
 - ☒ 2. BCAD
 - ☒ 3. ABCD
 - ☒ 4. DBCA

Question ID : 630680938396
Option 1 ID : 6306803678037
Option 2 ID : 6306803678036
Option 3 ID : 6306803678035
Option 4 ID : 6306803678038

Q.3 Fill in the blank with the correct preposition:

This book was written _____ J.K. Rowling.

- Ans
- ☒ 1. with
 - ☒ 2. in
 - ☒ 3. by
 - ☒ 4. on

Question ID : 630680938480
Option 1 ID : 6306803678350
Option 2 ID : 6306803678347
Option 3 ID : 6306803678349
Option 4 ID : 6306803678348

Q.4 Select the word segment that substitutes (replaces) the bracketed idiom correctly and completes the sentence meaningfully.

He (broke the ice) by telling a funny joke at the start of the meeting.

- Ans
- ☒ 1. cooled the atmosphere
 - ☒ 2. started a conversation
 - ☒ 3. made everyone laugh
 - ☒ 4. caused a problem

Question ID : 630680938443
Option 1 ID : 6306803678214
Option 2 ID : 6306803678212
Option 3 ID : 6306803678211
Option 4 ID : 6306803678213

Q.5 Select the word segment that substitutes (replaces) the bracketed idiom correctly and completes the sentence meaningfully.

She (broke the ice) by telling a funny joke at the start of the meeting.

- Ans
- ☒ 1. started talking
 - ☒ 2. ended the conversation
 - ☒ 3. made everyone laugh
 - ☒ 4. started a fight

Question ID : 630680938356
Option 1 ID : 6306803677888
Option 2 ID : 6306803677890
Option 3 ID : 6306803677887
Option 4 ID : 6306803677889

Q.6 Fill in the blank with the correct part of speech:

She studied hard _____ that she could pass the test.

- Ans
- ☒ 1. in order to
 - ☒ 2. so
 - ☒ 3. because
 - ☒ 4. but

Question ID : 630680938522
Option 1 ID : 6306803678506
Option 2 ID : 6306803678504
Option 3 ID : 6306803678503
Option 4 ID : 6306803678505

Q.7 Choose the option which is antonym of (opposite of) the word 'magnanimous' in the sentence given below

He was a magnanimous leader who forgave his enemies and treated them with kindness.

- Ans
- ☒ 1. generous
 - ☒ 2. gracious
 - ☒ 3. spiteful
 - ☒ 4. noble

Question ID : 630680938448
Option 1 ID : 6306803678232
Option 2 ID : 6306803678234
Option 3 ID : 6306803678231
Option 4 ID : 6306803678233

Q.8 Choose the correct one-word substitution for the sentence/phrase given below:

A collection of weapons and military equipment

- Ans
- ☒ 1. Burrow
 - ☒ 2. Cache
 - ☒ 3. Arsenal
 - ☒ 4. Asylum

Question ID : 630680938526
Option 1 ID : 6306803678521
Option 2 ID : 6306803678522
Option 3 ID : 6306803678519
Option 4 ID : 6306803678520

Q.9 Fill in the blank with the correct article:

_____ Pyramids of Giza are a famous landmark in Egypt.

- Ans
- ☒ 1. An
 - ☐ 2. no article
 - ☐ 3. A
 - ☒ 4. The

Question ID : 630680938299
Option 1 ID : 6306803677672
Option 2 ID : 6306803677674
Option 3 ID : 6306803677671
Option 4 ID : 6306803677673

Q.10 Choose the option which is synonym of the word "hide" in the sentence given below:

He tried to hide his true feelings from her.

- Ans
- ☒ 1. harbour
 - ☐ 2. reveal
 - ☐ 3. disclose
 - ☐ 4. expose

Question ID : 630680938320
Option 1 ID : 6306803677756
Option 2 ID : 6306803677755
Option 3 ID : 6306803677758
Option 4 ID : 6306803677757

Q.11 Choose the correct one-word substitution for the sentence/phrase given below:

Safe to drink

- Ans
- ☒ 1. Potable
 - ☐ 2. Regalia
 - ☐ 3. Sacrilege
 - ☐ 4. Sinecure

Question ID : 630680938441
Option 1 ID : 6306803678203
Option 2 ID : 6306803678204
Option 3 ID : 6306803678205
Option 4 ID : 6306803678206

Q.12 Fill in the blank with the correct article:

They saw _____ elephant and _____ zebra at the zoo amongst many other animals.

- Ans
- ☒ 1. an, an
 - ☐ 2. a, an
 - ☒ 3. an, a
 - ☐ 4. a, a

Question ID : 630680938348
Option 1 ID : 6306803677858
Option 2 ID : 6306803677856
Option 3 ID : 6306803677857
Option 4 ID : 6306803677855

Q.13 Fill in the blank with the appropriate article:

She is _____ only child in her family.

- Ans
- ☒ 1. the
 - ☐ 2. no article
 - ☐ 3. an
 - ☐ 4. a

Question ID : 630680938476
Option 1 ID : 6306803678333
Option 2 ID : 6306803678334
Option 3 ID : 6306803678332
Option 4 ID : 6306803678331

Q.14 Fill in the blank with the correct part of speech:

She hid the letter _____ the books.

- Ans
- ☐ 1. through
 - ☒ 2. behind
 - ☐ 3. over
 - ☐ 4. across

Question ID : 630680938308
Option 1 ID : 6306803677708
Option 2 ID : 6306803677710
Option 3 ID : 6306803677707
Option 4 ID : 6306803677709

Q.15 Fill in the blank with the correct preposition:

He ran _____ the glass door and bumped his head.

- Ans
- ☒ 1. from
 - ☒ 2. in
 - ☒ 3. into
 - ☒ 4. towards

Question ID : 630680938561
Option 1 ID : 6306803678650
Option 2 ID : 6306803678647
Option 3 ID : 6306803678649
Option 4 ID : 6306803678648

Q.16 Fill in the blank with the correct preposition:

He did the work _____ a hurry.

- Ans
- ☒ 1. with
 - ☒ 2. on
 - ☒ 3. by
 - ☒ 4. in

Question ID : 630680938518
Option 1 ID : 6306803678490
Option 2 ID : 6306803678488
Option 3 ID : 6306803678489
Option 4 ID : 6306803678487

Q.17 Select the word segment that substitutes (replaces) the bracketed idiom correctly and completes the sentence meaningfully.

He (called it a day) after finishing his report.

- Ans
- ☒ 1. praised himself
 - ☒ 2. made a phone call
 - ☒ 3. decided to stop working further
 - ☒ 4. quit his job

Question ID : 630680938486
Option 1 ID : 6306803678373
Option 2 ID : 6306803678374
Option 3 ID : 6306803678372
Option 4 ID : 6306803678371

Q.18 Given below is a sentence with an error in the underlined segment. Say which of the options can replace the segment to make the sentence grammatically correct. If there is no error , choose 'No error'

He is an only child in the family.

- Ans
- ✓ 1. the only child
 - ✗ 2. a only child
 - ✗ 3. no error
 - ✗ 4. only child

Question ID : 630680938562
Option 1 ID : 6306803678652
Option 2 ID : 6306803678651
Option 3 ID : 6306803678654
Option 4 ID : 6306803678653

Q.19 Choose the option which is synonym of the word "frugal" in the sentence given below:

He was a frugal person who saved every penny.

- Ans
- ✗ 1. wasteful
 - ✗ 2. lavish
 - ✗ 3. extravagant
 - ✓ 4. thrifty

Question ID : 630680938404
Option 1 ID : 6306803678068
Option 2 ID : 6306803678070
Option 3 ID : 6306803678067
Option 4 ID : 6306803678069

Q.20 Choose the correct one-word substitution for the sentence/phrase given below:

An unconventional style of living

- Ans
- ✗ 1. Contemporaries
 - ✓ 2. Bohemian
 - ✗ 3. Chauvinist
 - ✗ 4. Connoisseur

Question ID : 630680938398
Option 1 ID : 6306803678046
Option 2 ID : 6306803678043
Option 3 ID : 6306803678044
Option 4 ID : 6306803678045

Q.1 The sentence given below is divided in to three segments Choose the segment which has a spelling error. If there are no errors, choose No error option.

The explorer traversed/ the treacherous terrains/ with unparalled skill.

- Ans ☒ 1. with unparalled skill.
- ☐ 2. the treacherous terrains
- ☐ 3. No error
- ☐ 4. The explorer traversed

Question ID : 630680938538
Option 1 ID : 6306803678569
Option 2 ID : 6306803678568
Option 3 ID : 6306803678570
Option 4 ID : 6306803678567

Q.2 Choose the word that best completes the sentence:

He had to _____ the rope to make a knot.

- Ans ☐ 1. no
- ☐ 2. now
- ☒ 3. gnaw
- ☐ 4. know

Question ID : 630680938407
Option 1 ID : 6306803678079
Option 2 ID : 6306803678081
Option 3 ID : 6306803678082
Option 4 ID : 6306803678080

Q.3 Choose the homonym for "role"

- Ans ☐ 1. Whole
- ☐ 2. Rowel
- ☐ 3. Rile
- ☒ 4. Roll

Question ID : 630680938536
Option 1 ID : 6306803678561
Option 2 ID : 6306803678560
Option 3 ID : 6306803678562
Option 4 ID : 6306803678559

Q.4 Choose the word that best completes the sentence:

She loves to read books in her spare _____.

- Ans
- ☒ 1. dime
 - ☒ 2. rhyme
 - ☒ 3. time
 - ☒ 4. thyme

Question ID : 630680938321
Option 1 ID : 6306803677761
Option 2 ID : 6306803677762
Option 3 ID : 6306803677759
Option 4 ID : 6306803677760

Q.5 Choose the most appropriate meaning of the idiom given below:

Birds of a feather flock together

- Ans
- ☒ 1. People who are alike are often friends
 - ☒ 2. Changes and new experiences make life more enjoyable
 - ☒ 3. Agree or have the same opinion as someone else
 - ☒ 4. The feeling of success or accomplishment

Question ID : 630680938530
Option 1 ID : 6306803678535
Option 2 ID : 6306803678538
Option 3 ID : 6306803678536
Option 4 ID : 6306803678537

Comprehension:

A passage is given with 5 blanks in it. Read the passage carefully and choose the best answer to each question out of the four alternatives:

The Swiss knife, with its origin dating back to the late 19th century, is renowned for its (1) _____ design. Initially created as a compact and (2) _____ tool, it gained popularity due to its multifunctionality, serving as a(n) (3) _____ tool for various situations. The inventor, Karl Elsener, drew inspiration from the idea of crafting a versatile tool that could also be adapted to (4) _____ situations. As a result, the Swiss knife evolved from its (5) _____ origins to become an iconic and indispensable tool, transcending its initial purpose.

SubQuestion No : 6

Q.6 Select the most appropriate option to fill in blank number 1.

- Ans
- ☒ 1. Bold
 - ☒ 2. Colourful
 - ☒ 3. Sleek
 - ☒ 4. Bulky

Question ID : 630680938325
Option 1 ID : 6306803677771
Option 2 ID : 6306803677774
Option 3 ID : 6306803677772
Option 4 ID : 6306803677773

Comprehension:

A passage is given with 5 blanks in it. Read the passage carefully and choose the best answer to each question out of the four alternatives:

The Swiss knife, with its origin dating back to the late 19th century, is renowned for its (1) _____ design. Initially created as a compact and (2) _____ tool, it gained popularity due to its multifunctionality, serving as a(n) (3) _____ tool for various situations. The inventor, Karl Elsener, drew inspiration from the idea of crafting a versatile tool that could also be adapted to (4) _____ situations. As a result, the Swiss knife evolved from its (5) _____ origins to become an iconic and indispensable tool, transcending its initial purpose.

SubQuestion No : 7

Q.7 Select the most appropriate option to fill in blank number 2.

- Ans
- ☒ 1. quick
 - ☒ 2. variable
 - ☒ 3. versatile
 - ☒ 4. good

Question ID : 630680938326
Option 1 ID : 6306803677775
Option 2 ID : 6306803677778
Option 3 ID : 6306803677777
Option 4 ID : 6306803677776

Comprehension:

A passage is given with 5 blanks in it. Read the passage carefully and choose the best answer to each question out of the four alternatives:

The Swiss knife, with its origin dating back to the late 19th century, is renowned for its (1) _____ design. Initially created as a compact and (2) _____ tool, it gained popularity due to its multifunctionality, serving as a(n) (3) _____ tool for various situations. The inventor, Karl Elsener, drew inspiration from the idea of crafting a versatile tool that could also be adapted to (4) _____ situations. As a result, the Swiss knife evolved from its (5) _____ origins to become an iconic and indispensable tool, transcending its initial purpose.

SubQuestion No : 8

Q.8 Select the most appropriate option to fill in blank number 3.

- Ans
- ☒ 1. Limited-purpose
 - ☒ 2. All-purpose
 - ☒ 3. Specialized
 - ☒ 4. Exclusively culinary

Question ID : 630680938327
Option 1 ID : 6306803677781
Option 2 ID : 6306803677782
Option 3 ID : 6306803677779
Option 4 ID : 6306803677780

Comprehension:

A passage is given with 5 blanks in it. Read the passage carefully and choose the best answer to each question out of the four alternatives:

The Swiss knife, with its origin dating back to the late 19th century, is renowned for its (1) _____ design. Initially created as a compact and (2) _____ tool, it gained popularity due to its multifunctionality, serving as a(n) (3) _____ tool for various situations. The inventor, Karl Elsener, drew inspiration from the idea of crafting a versatile tool that could also be adapted to (4) _____ situations. As a result, the Swiss knife evolved from its (5) _____ origins to become an iconic and indispensable tool, transcending its initial purpose.

SubQuestion No : 9

Q.9 Select the most appropriate option to fill in blank number 4.

- Ans
- ☒ 1. Rancorous
 - ☒ 2. Extreme and diverse
 - ☒ 3. Limited
 - ☒ 4. Specific

Question ID : 630680938328
Option 1 ID : 6306803677783
Option 2 ID : 6306803677784
Option 3 ID : 6306803677786
Option 4 ID : 6306803677785

Comprehension:

A passage is given with 5 blanks in it. Read the passage carefully and choose the best answer to each question out of the four alternatives:

The Swiss knife, with its origin dating back to the late 19th century, is renowned for its (1) _____ design. Initially created as a compact and (2) _____ tool, it gained popularity due to its multifunctionality, serving as a(n) (3) _____ tool for various situations. The inventor, Karl Elsener, drew inspiration from the idea of crafting a versatile tool that could also be adapted to (4) _____ situations. As a result, the Swiss knife evolved from its (5) _____ origins to become an iconic and indispensable tool, transcending its initial purpose.

SubQuestion No : 10

Q.10 Select the most appropriate option to fill in blank number 5.

- Ans
- ☒ 1. Humorous
 - ☒ 2. Humble
 - ☒ 3. Experimental
 - ☒ 4. Humiliating

Question ID : 630680938329
Option 1 ID : 6306803677789
Option 2 ID : 6306803677787
Option 3 ID : 6306803677790
Option 4 ID : 6306803677788

Comprehension:

A passage is given with 5 questions following it. Read the passage carefully and choose the best answer to each question out of the four alternatives:

"The Social Network," directed by David Fincher and released in 2010, is a cinematic masterpiece that chronicles the tumultuous rise of Facebook and its enigmatic founder, Mark Zuckerberg. The film, based on Ben Mezrich's book "The Accidental Billionaires," captures the essence of the internet age and the complexities of friendship, betrayal, and ambition. Jesse Eisenberg delivers a compelling portrayal of Zuckerberg, showcasing his genius and interpersonal challenges. The screenplay, penned by Aaron Sorkin, weaves a narrative that explores the legal battles and personal conflicts surrounding the creation of the social media giant. The film delves into the dynamic relationships between Zuckerberg, Eduardo Saverin (played by Andrew Garfield), and Sean Parker (portrayed by Justin Timberlake). It skillfully navigates the ethical dilemmas and moral ambiguities that accompany the pursuit of success in the tech industry. "The Social Network" not only serves as a riveting biographical drama but also provides poignant commentary on the nature of human connection in the digital age. With its stellar cast, sharp dialogue, and Fincher's masterful direction, the film remains a thought-provoking exploration of the high-stakes world of Silicon Valley and the profound impact of social media on contemporary society.

SubQuestion No : 11

Q.11 What is the tone of the passage?

- Ans
- ☒ 1. Analytical
 - ☒ 2. Enthusiastic
 - ☐ 3. Neutral
 - ☐ 4. Critical

Question ID : 630680938509
Option 1 ID : 6306803678453
Option 2 ID : 6306803678452
Option 3 ID : 6306803678454
Option 4 ID : 6306803678451





Comprehension:

A passage is given with 5 questions following it. Read the passage carefully and choose the best answer to each question out of the four alternatives:

"The Social Network," directed by David Fincher and released in 2010, is a cinematic masterpiece that chronicles the tumultuous rise of Facebook and its enigmatic founder, Mark Zuckerberg. The film, based on Ben Mezrich's book "The Accidental Billionaires," captures the essence of the internet age and the complexities of friendship, betrayal, and ambition. Jesse Eisenberg delivers a compelling portrayal of Zuckerberg, showcasing his genius and interpersonal challenges. The screenplay, penned by Aaron Sorkin, weaves a narrative that explores the legal battles and personal conflicts surrounding the creation of the social media giant. The film delves into the dynamic relationships between Zuckerberg, Eduardo Saverin (played by Andrew Garfield), and Sean Parker (portrayed by Justin Timberlake). It skillfully navigates the ethical dilemmas and moral ambiguities that accompany the pursuit of success in the tech industry. "The Social Network" not only serves as a riveting biographical drama but also provides poignant commentary on the nature of human connection in the digital age. With its stellar cast, sharp dialogue, and Fincher's masterful direction, the film remains a thought-provoking exploration of the high-stakes world of Silicon Valley and the profound impact of social media on contemporary society.

SubQuestion No : 12

Q.12 Which of the following can be inferred from the passage?

- Ans  1. "The Social Network" explores ethical dilemmas in the pursuit of success in the tech industry.
-  2. The film primarily focuses on legal battles in the tech industry.
-  3. The passage suggests that the film lacks a compelling narrative.
-  4. The portrayal of Mark Zuckerberg in the film emphasizes his flaws and failures.

Question ID : 630680938511
Option 1 ID : 6306803678461
Option 2 ID : 6306803678459
Option 3 ID : 6306803678462
Option 4 ID : 6306803678460

Comprehension:

A passage is given with 5 questions following it. Read the passage carefully and choose the best answer to each question out of the four alternatives:

"The Social Network," directed by David Fincher and released in 2010, is a cinematic masterpiece that chronicles the tumultuous rise of Facebook and its enigmatic founder, Mark Zuckerberg. The film, based on Ben Mezrich's book "The Accidental Billionaires," captures the essence of the internet age and the complexities of friendship, betrayal, and ambition. Jesse Eisenberg delivers a compelling portrayal of Zuckerberg, showcasing his genius and interpersonal challenges. The screenplay, penned by Aaron Sorkin, weaves a narrative that explores the legal battles and personal conflicts surrounding the creation of the social media giant. The film delves into the dynamic relationships between Zuckerberg, Eduardo Saverin (played by Andrew Garfield), and Sean Parker (portrayed by Justin Timberlake). It skillfully navigates the ethical dilemmas and moral ambiguities that accompany the pursuit of success in the tech industry. "The Social Network" not only serves as a riveting biographical drama but also provides poignant commentary on the nature of human connection in the digital age. With its stellar cast, sharp dialogue, and Fincher's masterful direction, the film remains a thought-provoking exploration of the high-stakes world of Silicon Valley and the profound impact of social media on contemporary society.

SubQuestion No : 13

Q.13 How is the passage structured?

- Ans
- ☒ 1. Chronological
 - ☒ 2. Compare and Contrast
 - ☒ 3. Descriptive
 - ☒ 4. Cause and Effect

Question ID : 630680938513
 Option 1 ID : 6306803678467
 Option 2 ID : 6306803678469
 Option 3 ID : 6306803678470
 Option 4 ID : 6306803678468

Comprehension:

A passage is given with 5 questions following it. Read the passage carefully and choose the best answer to each question out of the four alternatives:

"The Social Network," directed by David Fincher and released in 2010, is a cinematic masterpiece that chronicles the tumultuous rise of Facebook and its enigmatic founder, Mark Zuckerberg. The film, based on Ben Mezrich's book "The Accidental Billionaires," captures the essence of the internet age and the complexities of friendship, betrayal, and ambition. Jesse Eisenberg delivers a compelling portrayal of Zuckerberg, showcasing his genius and interpersonal challenges. The screenplay, penned by Aaron Sorkin, weaves a narrative that explores the legal battles and personal conflicts surrounding the creation of the social media giant. The film delves into the dynamic relationships between Zuckerberg, Eduardo Saverin (played by Andrew Garfield), and Sean Parker (portrayed by Justin Timberlake). It skillfully navigates the ethical dilemmas and moral ambiguities that accompany the pursuit of success in the tech industry. "The Social Network" not only serves as a riveting biographical drama but also provides poignant commentary on the nature of human connection in the digital age. With its stellar cast, sharp dialogue, and Fincher's masterful direction, the film remains a thought-provoking exploration of the high-stakes world of Silicon Valley and the profound impact of social media on contemporary society.

SubQuestion No : 14

Q.14 What is the antonym of the word "compelling" as used in the passage?

- Ans
- ☒ 1. Boring
 - ☒ 2. Ordinary
 - ☒ 3. Dull
 - ☒ 4. Unconvincing

Question ID : 630680938512
Option 1 ID : 6306803678465
Option 2 ID : 6306803678464
Option 3 ID : 6306803678466
Option 4 ID : 6306803678463

Comprehension:

A passage is given with 5 questions following it. Read the passage carefully and choose the best answer to each question out of the four alternatives:

"The Social Network," directed by David Fincher and released in 2010, is a cinematic masterpiece that chronicles the tumultuous rise of Facebook and its enigmatic founder, Mark Zuckerberg. The film, based on Ben Mezrich's book "The Accidental Billionaires," captures the essence of the internet age and the complexities of friendship, betrayal, and ambition. Jesse Eisenberg delivers a compelling portrayal of Zuckerberg, showcasing his genius and interpersonal challenges. The screenplay, penned by Aaron Sorkin, weaves a narrative that explores the legal battles and personal conflicts surrounding the creation of the social media giant. The film delves into the dynamic relationships between Zuckerberg, Eduardo Saverin (played by Andrew Garfield), and Sean Parker (portrayed by Justin Timberlake). It skillfully navigates the ethical dilemmas and moral ambiguities that accompany the pursuit of success in the tech industry. "The Social Network" not only serves as a riveting biographical drama but also provides poignant commentary on the nature of human connection in the digital age. With its stellar cast, sharp dialogue, and Fincher's masterful direction, the film remains a thought-provoking exploration of the high-stakes world of Silicon Valley and the profound impact of social media on contemporary society.

SubQuestion No : 15

Q.15 What is the central theme of the passage?

- Ans
- ☒ 1. Cinematic Techniques in "The Social Network"
 - ☒ 2. Legal Battles in the Tech Industry
 - ☒ 3. Betrayal in Silicon Valley
 - ☒ 4. The tumultuous story of the rise of Facebook

Question ID : 630680938510
Option 1 ID : 6306803678458
Option 2 ID : 6306803678457
Option 3 ID : 6306803678455
Option 4 ID : 6306803678456

Comprehension:

A passage is given with 5 questions following it. Read the passage carefully and choose the best answer to each question out of the four alternatives:

Google, a tech giant founded in 1998 by Larry Page and Sergey Brin, has become synonymous with internet search and digital innovation. Initially conceived as a search engine, Google rapidly evolved into a multifaceted global powerhouse, offering a diverse array of products and services.

Renowned for its commitment to organizing the world's information and making it universally accessible, Google's search engine dominates the internet landscape. Beyond search, the company has introduced transformative technologies such as Gmail, Google Maps, and the Android operating system, reshaping how individuals interact with information and technology.

Google's corporate culture, characterized by a focus on creativity and a relentless pursuit of excellence, has spurred groundbreaking projects like Google Glass, Waymo's self-driving cars, and the open-source Android platform. The company's headquarters, known as the Googleplex, stands as a symbol of its innovative spirit.

With a mission to innovate for the benefit of humanity, Google continues to push the boundaries of technology, artificial intelligence, and internet services. Its impact on the digital era is profound, cementing Google as a linchpin in the evolution of the modern tech landscape.

SubQuestion No : 16

Q.16 What is the antonym of the word "renowned" as used in the passage?

- Ans
- ☒ 1. Mediocre
 - ☒ 2. Familiar
 - ☒ 3. Ordinary
 - ☒ 4. Unknown

Question ID : 630680938506
Option 1 ID : 6306803678444
Option 2 ID : 6306803678445
Option 3 ID : 6306803678446
Option 4 ID : 6306803678443

Comprehension:

A passage is given with 5 questions following it. Read the passage carefully and choose the best answer to each question out of the four alternatives:

Google, a tech giant founded in 1998 by Larry Page and Sergey Brin, has become synonymous with internet search and digital innovation. Initially conceived as a search engine, Google rapidly evolved into a multifaceted global powerhouse, offering a diverse array of products and services.

Renowned for its commitment to organizing the world's information and making it universally accessible, Google's search engine dominates the internet landscape. Beyond search, the company has introduced transformative technologies such as Gmail, Google Maps, and the Android operating system, reshaping how individuals interact with information and technology.

Google's corporate culture, characterized by a focus on creativity and a relentless pursuit of excellence, has spurred groundbreaking projects like Google Glass, Waymo's self-driving cars, and the open-source Android platform. The company's headquarters, known as the Googleplex, stands as a symbol of its innovative spirit.

With a mission to innovate for the benefit of humanity, Google continues to push the boundaries of technology, artificial intelligence, and internet services. Its impact on the digital era is profound, cementing Google as a linchpin in the evolution of the modern tech landscape.

SubQuestion No : 17

Q.17 What is the central theme of the passage?

- Ans
- ☒ 1. The history of Google
 - ☒ 2. The products of Google
 - ☒ 3. The culture of Google
 - ☒ 4. The innovation of Google

Question ID : 630680938504
Option 1 ID : 6306803678435
Option 2 ID : 6306803678437
Option 3 ID : 6306803678438
Option 4 ID : 6306803678436

Comprehension:

A passage is given with 5 questions following it. Read the passage carefully and choose the best answer to each question out of the four alternatives:

Google, a tech giant founded in 1998 by Larry Page and Sergey Brin, has become synonymous with internet search and digital innovation. Initially conceived as a search engine, Google rapidly evolved into a multifaceted global powerhouse, offering a diverse array of products and services.

Renowned for its commitment to organizing the world's information and making it universally accessible, Google's search engine dominates the internet landscape. Beyond search, the company has introduced transformative technologies such as Gmail, Google Maps, and the Android operating system, reshaping how individuals interact with information and technology.

Google's corporate culture, characterized by a focus on creativity and a relentless pursuit of excellence, has spurred groundbreaking projects like Google Glass, Waymo's self-driving cars, and the open-source Android platform. The company's headquarters, known as the Googleplex, stands as a symbol of its innovative spirit.

With a mission to innovate for the benefit of humanity, Google continues to push the boundaries of technology, artificial intelligence, and internet services. Its impact on the digital era is profound, cementing Google as a linchpin in the evolution of the modern tech landscape.

SubQuestion No : 18

Q.18 How is the passage structured?

Ans  **1. Introduction - Body - Conclusion**

 **2. Cause - Effect - Implication**

 **3. Problem - Solution - Evaluation**

 **4. Comparison - Contrast - Synthesis**

Question ID : **630680938507**
Option 1 ID : **6306803678447**
Option 2 ID : **6306803678449**
Option 3 ID : **6306803678448**
Option 4 ID : **6306803678450**

Comprehension:

A passage is given with 5 questions following it. Read the passage carefully and choose the best answer to each question out of the four alternatives:

Google, a tech giant founded in 1998 by Larry Page and Sergey Brin, has become synonymous with internet search and digital innovation. Initially conceived as a search engine, Google rapidly evolved into a multifaceted global powerhouse, offering a diverse array of products and services.

Renowned for its commitment to organizing the world's information and making it universally accessible, Google's search engine dominates the internet landscape. Beyond search, the company has introduced transformative technologies such as Gmail, Google Maps, and the Android operating system, reshaping how individuals interact with information and technology.

Google's corporate culture, characterized by a focus on creativity and a relentless pursuit of excellence, has spurred groundbreaking projects like Google Glass, Waymo's self-driving cars, and the open-source Android platform. The company's headquarters, known as the Googleplex, stands as a symbol of its innovative spirit.

With a mission to innovate for the benefit of humanity, Google continues to push the boundaries of technology, artificial intelligence, and internet services. Its impact on the digital era is profound, cementing Google as a linchpin in the evolution of the modern tech landscape.

SubQuestion No : 19

Q.19 Which of the following can be inferred from the passage?

- Ans
- ☒ 1. Google is a monopoly
 - ☒ 2. Google is a public company
 - ☒ 3. Google's objectives are directed at public benefit
 - ☒ 4. Google is a secretive organization

Question ID : 630680938505
Option 1 ID : 6306803678439
Option 2 ID : 6306803678440
Option 3 ID : 6306803678441
Option 4 ID : 6306803678442

Comprehension:

A passage is given with 5 questions following it. Read the passage carefully and choose the best answer to each question out of the four alternatives:

Google, a tech giant founded in 1998 by Larry Page and Sergey Brin, has become synonymous with internet search and digital innovation. Initially conceived as a search engine, Google rapidly evolved into a multifaceted global powerhouse, offering a diverse array of products and services.

Renowned for its commitment to organizing the world's information and making it universally accessible, Google's search engine dominates the internet landscape. Beyond search, the company has introduced transformative technologies such as Gmail, Google Maps, and the Android operating system, reshaping how individuals interact with information and technology.

Google's corporate culture, characterized by a focus on creativity and a relentless pursuit of excellence, has spurred groundbreaking projects like Google Glass, Waymo's self-driving cars, and the open-source Android platform. The company's headquarters, known as the Googleplex, stands as a symbol of its innovative spirit.

With a mission to innovate for the benefit of humanity, Google continues to push the boundaries of technology, artificial intelligence, and internet services. Its impact on the digital era is profound, cementing Google as a linchpin in the evolution of the modern tech landscape.

SubQuestion No : 20

Q.20 What is the tone of the passage?

- Ans
- ☒ 1. Sarcastic
 - ☒ 2. Critical
 - ☒ 3. Argumentative
 - ☒ 4. Descriptive

Question ID : 630680938503
Option 1 ID : 6306803678434
Option 2 ID : 6306803678431
Option 3 ID : 6306803678433
Option 4 ID : 6306803678432

Section : Test of Hindi Language and Comprehension 1

Q.1 निम्नलिखित वाक्य में, उस वाक्यांश को पहचानिए जिसमें मात्राओं से संबंधित अशुद्धियाँ हैं। यदि कोई गलती नहीं है तो 'कोई त्रुटि नहीं है' का चुनाव कीजिए।

बच्चों को खासियत होती थी कि क्योंकि हम/ उन्हें कोई काम सिखा दें, तो वे उसे आजीवन वैसे ही/ करते हैं, वे उसे आदत बना लेते हैं।

- Ans
- ☒ 1. कोई त्रुटि नहीं है
 - ☒ 2. बच्चों को खासियत होती थी कि क्योंकि हम
 - ☒ 3. करते हैं, वे उसे आदत बना लेते हैं।
 - ☒ 4. उन्हें कोई काम सिखा दें, तो वे उसे आजीवन वैसे ही

Question ID : 630680938746
Option 1 ID : 6306803679366
Option 2 ID : 6306803679363
Option 3 ID : 6306803679365
Option 4 ID : 6306803679364

Q.2 निम्नलिखित विकल्पों में से कौन सा विकल्प एक सुसंगत वाक्य बनाने के लिए वाक्यांशों को सही ढंग से व्यवस्थित करता है?

- A- से काम करना बुद्धिमानी है
B- "एकता में अटूट शक्ति है" इसका अर्थ है
C- कि एक दूसरे के खिलाफ काम करने के
D- बजाय एक साथ रहना और दूसरों के सहयोग

Ans ☒ 1. BACD
☒ 2. BCDA
☒ 3. BCAD
☒ 4. DACB

Question ID : 630680938682
Option 1 ID : 6306803679119
Option 2 ID : 6306803679120
Option 3 ID : 6306803679122
Option 4 ID : 6306803679121

Q.3 दिए गए वाक्य के कोष्ठक वाले भाग में त्रुटि हो सकती है। वह विकल्प चुने जो इस त्रुटि को ठीक करें।

शिक्षित लड़कियाँ बच्चों में (अच्छे अवगुण प्रदान करके परिवार के प्रत्येक सदस्य को उत्तरदायी) बना सकती हैं।

Ans ☒ 1. अच्छे अवगुण प्रदान करके परिवार के प्रत्येक सदस्य को उत्तरदायी
☒ 2. अच्छे गुण लेकर करके परिवार के प्रत्येक सदस्य को उत्तरदायी
☒ 3. अच्छे गुण प्रदान करके परिवार के प्रत्येक सदस्य को उत्तरदायी
☒ 4. बुरे गुण प्रदान करके परिवार के कुछ सदस्य को उत्तरदायी

Question ID : 630680938929
Option 1 ID : 6306803680059
Option 2 ID : 6306803680060
Option 3 ID : 6306803680061
Option 4 ID : 6306803680062

Q.4 निम्नलिखित वाक्य में, उस वाक्यांश को पहचानिए जिसमें कुछ अशुद्धियाँ हैं। यदि कोई गलती नहीं है तो 'कोई त्रुटि नहीं है' का चुनाव कीजिए।

वर्ष 1930 में भारत से विज्ञान के क्षेत्र में बड़ी सफलता हासिल/ करने के लिये भौतिक विज्ञान में चन्द्रशेखर वेंकट रमन को/ नोबल पुरस्कार से सम्मानित किया गया था।

Ans ☒ 1. नोबल पुरस्कार से सम्मानित किया गया था।
☒ 2. वर्ष 1930 में भारत से विज्ञान के क्षेत्र में बड़ी सफलता हासिल/
☒ 3. कोई त्रुटि नहीं है
☒ 4. करने के लिये भौतिक विज्ञान में चन्द्रशेखर वेंकट रमन को

Question ID : 630680938996
Option 1 ID : 6306803680317
Option 2 ID : 6306803680315
Option 3 ID : 6306803680318
Option 4 ID : 6306803680316

Q.5 निम्नलिखित विकल्पों में से कौन सा विकल्प एक सुसंगत वाक्य बनाने के लिए वाक्यांशों को सही ढंग से व्यवस्थित करता है?

- A- बाद में काले-काले बादल छाए रहते हैं या बरसात
B- अक्सर बरसात के मौसम में जब बरसात के पहले या
C- तब अक्सर इंद्रधनुष दिखाई देता है
D- रिमझिम प्रकृति की होती और धूप निकलती है,

Ans ☒ 1. CADB
☒ 2. BADC
☒ 3. DCAB
☒ 4. DCBA

Question ID : 630680938973
Option 1 ID : 6306803680230
Option 2 ID : 6306803680227
Option 3 ID : 6306803680229
Option 4 ID : 6306803680228

Q.6 निम्नलिखित प्रश्न में, चार विकल्पों में से, उस विकल्प का चयन करें जो दिए गए वाक्य के लिए सही क्रिया के रूप वाला विकल्प है।

पिताजी ने खाना खाकर चाय पिया।

Ans ☒ 1. कृतंत किया
☒ 2. अकर्मक क्रिया
☒ 3. पूर्वकालिक क्रिया
☒ 4. नामधातु क्रिया

Question ID : 630680938776
Option 1 ID : 6306803679476
Option 2 ID : 6306803679478
Option 3 ID : 6306803679477
Option 4 ID : 6306803679475

Q.7 निम्नलिखित वाक्यांश को किसी एक शब्द-चयन से विस्थापित कीजिए-

जिस स्त्री की बोली कठोर हो

Ans ☒ 1. कलेवा
☒ 2. कपिश
☒ 3. कर्कशा
☒ 4. एषणा

Question ID : 630680938857
Option 1 ID : 6306803679784
Option 2 ID : 6306803679785
Option 3 ID : 6306803679786
Option 4 ID : 6306803679783

Q.8 'रीतिवाचक क्रिया विशेषण' चुनकर, निम्नलिखित वाक्य में रिक्त स्थान की पूर्ति करें-

राज ने पूरे घर की सफाई _____ से कर दी।

- Ans
- ☒ 1. सुबह
 - ☒ 2. झाड़ू
 - ☒ 3. अच्छी तरह
 - ☒ 4. पहले

Question ID : 630680938819
Option 1 ID : 6306803679639
Option 2 ID : 6306803679640
Option 3 ID : 6306803679641
Option 4 ID : 6306803679642

Q.9 निम्नलिखित प्रश्न में, चार विकल्पों में से, उस सही विकल्प का चयन करें जो दिए गए अनुच्छेद के लिए अंतिम वाक्य का सही विकल्प हो।

एक ओर भारतीय कृषक कर्मयोगी हैं। दूसरे ओर धर्मभीरु अथवा धार्मिक भी हैं। गाँव के पंडित उनके लिए भगवान् का प्रतिनिधि हैं।

- Ans
- ☒ 1. उनकी मौजूदगी उनके लिए अभिशाप है।
 - ☒ 2. उनकी नाराजगी उनके लिए अच्छी है।
 - ☒ 3. उनकी नाराजगी उनके लिए अभिशाप है।
 - ☒ 4. उनकी खुशी उनके लिए अभिशाप है।

Question ID : 630680938928
Option 1 ID : 6306803680058
Option 2 ID : 6306803680057
Option 3 ID : 6306803680056
Option 4 ID : 6306803680055

Q.10 निम्नलिखित प्रश्न में, चार विकल्पों में से, उस विकल्प का चयन करें जो कोष्ठक में दिए गए शब्द के अनुसार सही क्रिया विशेषण के रूप वाला विकल्प है।

मैं (परसों) की ट्रेन से गाँव जा रहा हूँ।

- Ans
- ☒ 1. परिमाणवाचक क्रियाविशेषण
 - ☒ 2. रीतिवाचक क्रियाविशेषण
 - ☒ 3. स्थानवाचक क्रियाविशेषण
 - ☒ 4. कालवाचक क्रियाविशेषण

Question ID : 630680938693
Option 1 ID : 6306803679162
Option 2 ID : 6306803679159
Option 3 ID : 6306803679161
Option 4 ID : 6306803679160

Q.11 निम्नलिखित विकल्पों में से, मुहावरे के सही अर्थ का चयन कीजिए-

कान कतरना

- Ans
- ☒ 1. भाग खड़े होना
 - ☒ 2. अधिक होशियार हो जाना
 - ☒ 3. बदनाम करना
 - ☒ 4. अलग होना

Question ID : 630680938822
Option 1 ID : 6306803679651
Option 2 ID : 6306803679653
Option 3 ID : 6306803679654
Option 4 ID : 6306803679652

Q.12 निम्नलिखित प्रश्न में, चार विकल्पों में से, उस विकल्प का चयन करें जो दिए गए मुहावरे का सही अर्थ वाला विकल्प है।

आँखों का पानी ढलना

- Ans
- ☒ 1. निर्लज्ज हो जाना
 - ☒ 2. अत्यधिक क्रोध करना
 - ☒ 3. याद कर लेना
 - ☒ 4. धोखा देना

Question ID : 630680938950
Option 1 ID : 6306803680141
Option 2 ID : 6306803680140
Option 3 ID : 6306803680142
Option 4 ID : 6306803680139

Q.13 दिए गए वाक्य के कोष्ठक वाले भाग में त्रुटी हो सकती है। वह विकल्प चुने जो इस त्रुटी को ठीक करें।

समय के अभाव में लोगो को (सही में वक्रत नहीं मिलता लेकिन कुछ लोग वक्रत होते हुए भी) अपना आलसीपन दिखाने में बाज़ नहीं आते।

- Ans
- ☒ 1. सही से वक्रत ही मिलता लेकिन कुछ लोग वक्रत होते हुए भी
 - ☒ 2. कोई त्रुटि नहीं है।
 - ☒ 3. सही में वक्रत नहीं मिलता क्योंकि कुछ लोग वक्रत है हुए भी
 - ☒ 4. सही को वक्रत नहीं मिलाता लेकिन कुछ लोग वक्रत होते हुए भी

Question ID : 630680938722
Option 1 ID : 6306803679271
Option 2 ID : 6306803679274
Option 3 ID : 6306803679273
Option 4 ID : 6306803679272

Q.14 निम्नलिखित प्रश्न में, चार विकल्पों में से, उस विकल्प का चयन करें जो दिए गए रिक्त स्थान के लिए सही कारक वाला विकल्प है।

सीता और गीता ने शोरगुल करके डाकुओं _____ भगाया।

- Ans
- ☒ 1. पर
 - ☒ 2. से
 - ☒ 3. में
 - ☒ 4. को

Question ID : 630680938941
Option 1 ID : 6306803680103
Option 2 ID : 6306803680106
Option 3 ID : 6306803680104
Option 4 ID : 6306803680105

Q.15 निम्नलिखित प्रश्न में, चार विकल्पों में से, उस सही विकल्प का चयन करें जो वाक्यांशों के लिए एक शब्द का विकल्प हो।

जीतने की इच्छा

- Ans
- ☒ 1. जिघत्सा
 - ☒ 2. जिगीर्षा
 - ☒ 3. चिकीर्षा
 - ☒ 4. जनवासा

Question ID : 630680938732
Option 1 ID : 6306803679309
Option 2 ID : 6306803679310
Option 3 ID : 6306803679307
Option 4 ID : 6306803679308

Q.16 निम्नलिखित प्रश्न में, चार विकल्पों में से, उस विकल्प का चयन करें जो दिए गए मुहावरे का सही अर्थ वाला विकल्प है।

ईट से ईट बजाना

- Ans
- ☒ 1. हिंसा का करारा जवाब देना
 - ☒ 2. अत्यधिक घमण्ड होना
 - ☒ 3. मान-मर्यादा नष्ट करना
 - ☒ 4. अचानक घोर विपत्ति आ जाना

Question ID : 630680938988
Option 1 ID : 6306803680283
Option 2 ID : 6306803680285
Option 3 ID : 6306803680284
Option 4 ID : 6306803680286

Q.17 निम्नलिखित प्रश्न में, चार विकल्पों में से, उस विकल्प का चयन करें जो दी गई लोकोक्ति का सही अर्थ वाला विकल्प है।

लकड़ी के बल पर बंदर नाचे

- Ans ☒ 1. गलत कार्य का परिणाम भी गलत होता है
- ☒ 2. डंडे से सब भयभीत होते हैं
- ☒ 3. ऊपर से मित्रता, मन में शत्रुता
- ☒ 4. नकद लेन-देन हमेशा अच्छा होता है

Question ID : 630680938949
Option 1 ID : 6306803680137
Option 2 ID : 6306803680136
Option 3 ID : 6306803680135
Option 4 ID : 6306803680138

Q.18 निम्नलिखित में से कौन सा विकल्प एक सुसंगत वाक्य बनाने के लिए वाक्यांशों को सही ढंग से व्यवस्थित करता है?

- A- के रूप में मनाया जाना चाचा नेहरू का
- B- बच्चों के प्रति प्रेम और उनके प्रति बच्चों के
- C- पंडित नेहरू के जन्मदिन को बाल दिवस
- D- लगाव को चिह्नित करने का एक प्रयास है

- Ans ☒ 1. CBDA
- ☒ 2. CABD
- ☒ 3. DBAC
- ☒ 4. DACB

Question ID : 630680938849
Option 1 ID : 6306803679755
Option 2 ID : 6306803679757
Option 3 ID : 6306803679758
Option 4 ID : 6306803679756

Q.19 निम्नलिखित वाक्य में दिए गए रिक्त स्थान के लिए उचित सार्वनामिक विशेषण का चयन करें-

मुझे आज पता चला कि _____ तुम्हारा भाई है।

- Ans ☒ 1. कोई
- ☒ 2. वह
- ☒ 3. वह लड़का
- ☒ 4. रजनीश

Question ID : 630680938903
Option 1 ID : 6306803679962
Option 2 ID : 6306803679959
Option 3 ID : 6306803679961
Option 4 ID : 6306803679960

Q.20 निम्नलिखित प्रश्न में, चार विकल्पों में से, उस विकल्प का चयन करें जो दी गई लोकोक्ति का सही अर्थ वाला विकल्प है।

आम के आम गुठलियों के दाम

- Ans
- ☒ 1. मूर्ख किन्तु धनवान
 - ☒ 2. अधिक लाभ
 - ☒ 3. दोनों तरफ विपत्ति या परेशानी होना
 - ☒ 4. किसी तरह की जिम्मेवारी का न होना

Question ID : 630680938781
Option 1 ID : 6306803679495
Option 2 ID : 6306803679496
Option 3 ID : 6306803679498
Option 4 ID : 6306803679497

Section : Test of Hindi Language and Comprehension 2

Q.1 निम्नलिखित वाक्य में, उस वाक्यांश को पहचानिए जिसमें कुछ अशुद्धियाँ हैं। यदि कोई गलती नहीं है तो 'कोई त्रुटि नहीं है' का चुनाव कीजिए।

अगर कोई बच्चा बचपन से ही अपना मन किसी एक खेल में एकाग्रचित/ कर लेता है और उसे संयम से सीखता है तो भविष्य में वो एक विद्यार्थी, एक महान खिलाड़ी के रूप में अपनी पहचान बना सकता है।

- Ans
- ☒ 1. कर लेता है और उसे संयम से सीखता है तो भविष्य में वो एक विद्यार्थी,
 - ☒ 2. एक महान खिलाड़ी के रूप में अपनी पहचान बना सकता है।
 - ☒ 3. कोई त्रुटि नहीं है
 - ☒ 4. अगर कोई बच्चा बचपन से ही अपना मन किसी एक खेल में एकाग्रचित

Question ID : 630680938951
Option 1 ID : 6306803680144
Option 2 ID : 6306803680145
Option 3 ID : 6306803680146
Option 4 ID : 6306803680143

Q.2 निम्नलिखित वाक्य के उस भाग को पहचानिए जिसमें कोई अशुद्धि हो, यदि कोई अशुद्धि नहीं है तो 'कोई त्रुटि नहीं है' का चयन कीजिए।

महंगाई की वजह से गरीब लोग पहेनने के लिए कपड़े भी नहीं खरीद पाते हैं और न ही अपने परिवार के लिए एक वस्त्र का खाना ठीक से जुटा पाते हैं।

- Ans
- ☒ 1. महंगाई की वजह से गरीब लोग पहेनने के लिए कपड़े भी नहीं
 - ☒ 2. खरीद पाते हैं और न ही अपने परिवार के लिए एक वस्त्र का
 - ☒ 3. खाना ठीक से जुटा पाते हैं।
 - ☒ 4. कोई त्रुटि नहीं है

Question ID : 630680938868
Option 1 ID : 6306803679827
Option 2 ID : 6306803679828
Option 3 ID : 6306803679829
Option 4 ID : 6306803679830

Q.3 निम्नलिखित विकल्पों में से, उस विकल्प का चयन करें जो दिए गए शब्द का अनेकार्थी नहीं है -

ओक

- Ans
- ☒ 1. अंजलि
 - ☒ 2. आश्रय
 - ☒ 3. घर
 - ☒ 4. तत्पर

Question ID : 630680938875
Option 1 ID : 6306803679856
Option 2 ID : 6306803679857
Option 3 ID : 6306803679855
Option 4 ID : 6306803679858

Q.4 निम्नलिखित प्रश्न में, चार विकल्पों में से, उस विकल्प का चयन करें जो दिए गए शब्द के पर्यायवाची शब्द का सही विकल्प नहीं है।

ओझल

- Ans
- ☒ 1. आवरण
 - ☒ 2. अदृश्य
 - ☒ 3. अंतर्धान
 - ☒ 4. विलुप्त

Question ID : 630680938753
Option 1 ID : 6306803679393
Option 2 ID : 6306803679394
Option 3 ID : 6306803679392
Option 4 ID : 6306803679391

Q.5 निम्नलिखित प्रश्न में, चार विकल्पों में से, उस विकल्प का चयन करें जो दिए गए शब्द के तत्सम रूप वाला सही विकल्प है।

क्यारी

- Ans
- ☒ 1. कोटि
 - ☒ 2. केदारिका
 - ☒ 3. कूर्तिका
 - ☒ 4. केवर्त

Question ID : 630680938997
Option 1 ID : 6306803680321
Option 2 ID : 6306803680319
Option 3 ID : 6306803680322
Option 4 ID : 6306803680320

Q.6 निम्नलिखित चार विकल्पों में से, उस विकल्प का चयन करें जो दिए गए शब्द का शुद्ध तत्सम रूप है।

पहचान

- Ans
- ☒ 1. प्रतिच्छाया
 - ☒ 2. प्रहेलिका
 - ☒ 3. प्रतिवासी
 - ☒ 4. प्रत्यभिज्ञान

Question ID : 630680938914
Option 1 ID : 6306803680005
Option 2 ID : 6306803680006
Option 3 ID : 6306803680003
Option 4 ID : 6306803680004

Q.7 निम्नलिखित में से, उस विकल्प का चयन करें जो दिए गए शब्द का विलोम है।

साहचर्य

- Ans
- ☒ 1. सात्विक
 - ☒ 2. अलगाव
 - ☒ 3. त्याग
 - ☒ 4. मुक्त

Question ID : 630680938838
Option 1 ID : 6306803679718
Option 2 ID : 6306803679716
Option 3 ID : 6306803679717
Option 4 ID : 6306803679715

Q.8 निम्नलिखित प्रश्न में, चार विकल्पों में से, उस विकल्प का चयन करें जो दिए गए शब्द के अनेकार्थी रूप वाला सही विकल्प नहीं है।

प्रभाव

- Ans
- ☒ 1. महिमा
 - ☒ 2. प्रयास
 - ☒ 3. सामर्थ्य
 - ☒ 4. असर

Question ID : 630680938750
Option 1 ID : 6306803679380
Option 2 ID : 6306803679379
Option 3 ID : 6306803679382
Option 4 ID : 6306803679381

Q.9 निम्नलिखित चार विकल्पों में से, उस विकल्प का चयन करें जो दिए गए शब्द के विलोम शब्द का विकल्प है।

मिलन

- Ans ☒ 1. मंडन
☒ 2. घात
☒ 3. संकल्प
☒ 4. विरह

Question ID : 630680939002
Option 1 ID : 6306803680341
Option 2 ID : 6306803680342
Option 3 ID : 6306803680339
Option 4 ID : 6306803680340

Q.10 निम्नलिखित प्रश्न में, चार विकल्पों में से, उस विकल्प का चयन करें जो दिए गए शब्द के पर्यायवाची शब्द का सही विकल्प नहीं है।

चपला

- Ans ☒ 1. बिजली
☒ 2. इन्दु
☒ 3. विद्युत
☒ 4. दामिनी

Question ID : 630680938959
Option 1 ID : 6306803680176
Option 2 ID : 6306803680178
Option 3 ID : 6306803680177
Option 4 ID : 6306803680175

Comprehension:

नीचे दिए गये गद्यांश में कुछ शब्द छोड़ दिये गए हैं, प्रत्येक अनुच्छेद के सामने चार विकल्प दिया गया है। इस गद्यांश को ध्यानपूर्वक पढ़ें और चार विकल्पों में से सर्वोत्तम उत्तर वाला विकल्प चुनें।
व्यावसायिक शिक्षा में छात्रों को व्यापार के आधारभूत सिद्धान्तों तथा प्रक्रियाओं का शिक्षण दिया जाता है। किसी देश के विकास में उस देश की शैक्षिक व्यवस्था का _____ महत्व होता है। तथा ऐसी शिक्षा एवं प्रशिक्षण से तात्पर्य है जो कार्यकर्ता को अपने कार्य में _____ बनाती है उदाहरण के लिए आईटीआई एवं पॉलिटेक्निक में दी जाने वाली शिक्षा है। शिक्षा का मुख्य उद्देश्य छात्रों को व्यवसाय दिलाना और उनको _____ योग्य बनाना हो तो उस देश का विकास निश्चित होता है। शिक्षा अपने वास्तविक उद्देश्यों और लक्ष्यों की प्राप्ति तभी कर सकती है जब वह शिक्षा _____ शिक्षा हो। शिक्षा और व्यवसाय जीविका रूपी रथ के दो पहिए हैं। शिक्षा के बिना जीविकोपार्जन संभव नहीं, व्यवसाय बिना शिक्षा _____ है। प्राचीन युग में शिक्षा ग्रहण करने का उद्देश्य ज्ञानार्जन करना था।

SubQuestion No : 11

Q.11 किसी देश के विकास में उस देश की शैक्षिक व्यवस्था का _____ महत्व होता है।

- Ans ☒ 1. अत्यधिक
☒ 2. नहीं
☒ 3. कम
☒ 4. अस्थिर

Question ID : 630680938934
Option 1 ID : 6306803680077
Option 2 ID : 6306803680076
Option 3 ID : 6306803680075
Option 4 ID : 6306803680078

Comprehension:

नीचे दिए गये गद्यांश में कुछ शब्द छोड़ दिये गए हैं, प्रत्येक अनुच्छेद के सामने चार विकल्प दिया गया है। इस गद्यांश को ध्यानपूर्वक पढ़ें और चार विकल्पों में से सर्वोत्तम उत्तर वाला विकल्प चुनें।
व्यावसायिक शिक्षा में छात्रों को व्यापार के आधारभूत सिद्धान्तों तथा प्रक्रियाओं का शिक्षण दिया जाता है। किसी देश के विकास में उस देश की शैक्षिक व्यवस्था का _____ महत्व होता है। तथा ऐसी शिक्षा एवं प्रशिक्षण से तात्पर्य है जो कार्यकर्ता को अपने कार्य में _____ बनाती है उदाहरण के लिए आईटीआई एवं पॉलिटेक्निक में दी जाने वाली शिक्षा है। शिक्षा का मुख्य उद्देश्य छात्रों को व्यवसाय दिलाना और उनको _____ योग्य बनाना हो तो उस देश का विकास निश्चित होता है। शिक्षा अपने वास्तविक उद्देश्यों और लक्ष्यों की प्राप्ति तभी कर सकती है जब वह शिक्षा _____ शिक्षा हो। शिक्षा और व्यवसाय जीविका रूपी रथ के दो पहिए हैं। शिक्षा के बिना जीविकोपार्जन संभव नहीं, व्यवसाय बिना शिक्षा _____ है। प्राचीन युग में शिक्षा ग्रहण करने का उद्देश्य ज्ञानार्जन करना था।

SubQuestion No : 12

Q.12 तथा ऐसी शिक्षा एवं प्रशिक्षण से तात्पर्य है जो कार्यकर्ता को अपने कार्य में _____ बनाती है।

- Ans
- ☒ 1. अनिपुण
 - ☒ 2. निपुण
 - ☐ 3. विफल
 - ☐ 4. दिखावा

Question ID : 630680938935
Option 1 ID : 6306803680082
Option 2 ID : 6306803680080
Option 3 ID : 6306803680079
Option 4 ID : 6306803680081

Comprehension:

नीचे दिए गये गद्यांश में कुछ शब्द छोड़ दिये गए हैं, प्रत्येक अनुच्छेद के सामने चार विकल्प दिया गया है। इस गद्यांश को ध्यानपूर्वक पढ़ें और चार विकल्पों में से सर्वोत्तम उत्तर वाला विकल्प चुनें।
व्यावसायिक शिक्षा में छात्रों को व्यापार के आधारभूत सिद्धान्तों तथा प्रक्रियाओं का शिक्षण दिया जाता है। किसी देश के विकास में उस देश की शैक्षिक व्यवस्था का _____ महत्व होता है। तथा ऐसी शिक्षा एवं प्रशिक्षण से तात्पर्य है जो कार्यकर्ता को अपने कार्य में _____ बनाती है उदाहरण के लिए आईटीआई एवं पॉलिटेक्निक में दी जाने वाली शिक्षा है। शिक्षा का मुख्य उद्देश्य छात्रों को व्यवसाय दिलाना और उनको _____ योग्य बनाना हो तो उस देश का विकास निश्चित होता है। शिक्षा अपने वास्तविक उद्देश्यों और लक्ष्यों की प्राप्ति तभी कर सकती है जब वह शिक्षा _____ शिक्षा हो। शिक्षा और व्यवसाय जीविका रूपी रथ के दो पहिए हैं। शिक्षा के बिना जीविकोपार्जन संभव नहीं, व्यवसाय बिना शिक्षा _____ है। प्राचीन युग में शिक्षा ग्रहण करने का उद्देश्य ज्ञानार्जन करना था।

SubQuestion No : 13

Q.13 शिक्षा का मुख्य उद्देश्य छात्रों को व्यवसाय दिलाना और उनको _____ योग्य बनाना हो तो उस देश का विकास निश्चित होता है।

- Ans
- ☒ 1. जीविकोपार्जन
 - ☐ 2. स्वार्थी
 - ☐ 3. परावलंबी
 - ☐ 4. आराम

Question ID : 630680938936
Option 1 ID : 6306803680083
Option 2 ID : 6306803680086
Option 3 ID : 6306803680085
Option 4 ID : 6306803680084

Comprehension:

नीचे दिए गये गद्यांश में कुछ शब्द छोड़ दिये गए हैं, प्रत्येक अनुच्छेद के सामने चार विकल्प दिया गया है। इस गद्यांश को ध्यानपूर्वक पढ़ें और चार विकल्पों में से सर्वोत्तम उत्तर वाला विकल्प चुनें।
व्यावसायिक शिक्षा में छात्रों को व्यापार के आधारभूत सिद्धान्तों तथा प्रक्रियाओं का शिक्षण दिया जाता है। किसी देश के विकास में उस देश की शैक्षिक व्यवस्था का _____ महत्व होता है। तथा ऐसी शिक्षा एवं प्रशिक्षण से तात्पर्य है जो कार्यकर्ता को अपने कार्य में _____ बनाती है उदाहरण के लिए आईटीआई एवं पॉलिटेक्निक में दी जाने वाली शिक्षा है। शिक्षा का मुख्य उद्देश्य छात्रों को व्यवसाय दिलाना और उनको _____ योग्य बनाना हो तो उस देश का विकास निश्चित होता है। शिक्षा अपने वास्तविक उद्देश्यों और लक्ष्यों की प्राप्ति तभी कर सकती है जब वह शिक्षा _____ शिक्षा हो। शिक्षा और व्यवसाय जीविका रूपी रथ के दो पहिए हैं। शिक्षा के बिना जीविकोपार्जन संभव नहीं, व्यवसाय बिना शिक्षा _____ है। प्राचीन युग में शिक्षा ग्रहण करने का उद्देश्य ज्ञानार्जन करना था।

SubQuestion No : 14

Q.14 शिक्षा अपने वास्तविक उद्देश्यों और लक्ष्यों की प्राप्ति तभी कर सकती है जब वह शिक्षा _____ शिक्षा हो।

- Ans ☒ 1. व्यावसायिक
☐ 2. पौराणिक
☐ 3. अपार
☐ 4. कभी-कभी

Question ID : 630680938937
Option 1 ID : 6306803680090
Option 2 ID : 6306803680087
Option 3 ID : 6306803680089
Option 4 ID : 6306803680088

Comprehension:

नीचे दिए गये गद्यांश में कुछ शब्द छोड़ दिये गए हैं, प्रत्येक अनुच्छेद के सामने चार विकल्प दिया गया है। इस गद्यांश को ध्यानपूर्वक पढ़ें और चार विकल्पों में से सर्वोत्तम उत्तर वाला विकल्प चुनें।
व्यावसायिक शिक्षा में छात्रों को व्यापार के आधारभूत सिद्धान्तों तथा प्रक्रियाओं का शिक्षण दिया जाता है। किसी देश के विकास में उस देश की शैक्षिक व्यवस्था का _____ महत्व होता है। तथा ऐसी शिक्षा एवं प्रशिक्षण से तात्पर्य है जो कार्यकर्ता को अपने कार्य में _____ बनाती है उदाहरण के लिए आईटीआई एवं पॉलिटेक्निक में दी जाने वाली शिक्षा है। शिक्षा का मुख्य उद्देश्य छात्रों को व्यवसाय दिलाना और उनको _____ योग्य बनाना हो तो उस देश का विकास निश्चित होता है। शिक्षा अपने वास्तविक उद्देश्यों और लक्ष्यों की प्राप्ति तभी कर सकती है जब वह शिक्षा _____ शिक्षा हो। शिक्षा और व्यवसाय जीविका रूपी रथ के दो पहिए हैं। शिक्षा के बिना जीविकोपार्जन संभव नहीं, व्यवसाय बिना शिक्षा _____ है। प्राचीन युग में शिक्षा ग्रहण करने का उद्देश्य ज्ञानार्जन करना था।

SubQuestion No : 15

Q.15 शिक्षा के बिना जीविकोपार्जन संभव नहीं, व्यवसाय बिना शिक्षा _____ है।

- Ans ☐ 1. अर्थपूर्ण
☐ 2. समर्थ
☒ 3. व्यर्थ
☐ 4. सफल

Question ID : 630680938938
Option 1 ID : 6306803680093
Option 2 ID : 6306803680091
Option 3 ID : 6306803680092
Option 4 ID : 6306803680094

Comprehension:

नीचे दिए गये गद्यांश को ध्यानपूर्वक पढ़ें और इसके आधार पर प्रश्न का उत्तर दें।

हमारे देश भारत की संस्कृति, अनेकता में एकता पर आधारित है। 'अनेकता में एकता' एक शब्द ही नहीं बल्कि यह इस देश की संस्कृति और विरासत पर पूरी तरह लागू होता है। भारत विश्व के नक्शे पर अपनी रंगारंग और अनूठी संस्कृति की अमिट छाप छोड़े हुए हैं। मौर्य, चोल, मुगलकाल और ब्रिटिश साम्राज्य तक यह देश अपनी परंपरा और आतिथ्य के लिए मशहूर रहा है। यह विडम्बना ही है कि हमारे देश ने जिन ब्रिटिशों का व्यापारी और अतिथि के रूप में अपने यहाँ स्वागत किया उन्होंने ही हम पर कई सालों तक राज किया। बाद में ब्रिटिशों की कूटनीति की वजह से भारत ने अनेकता में एकता के दर्शन कराकर उनको यहाँ से जाने के लिए मजबूर कर दिया। इस देश की समृद्ध संस्कृति इसकी शिल्पकला, नृत्य और संगीत की वजह से भी दूर दूर तक फैली हुई है। भारत की संस्कृति अन्य देशों की अपेक्षा अत्यंत आकर्षक है। भारत में लोकतंत्र है। यहाँ रहने वाले सभी व्यक्ति सामान्य आचरण का पालन करें इसके लिए कुछ संवैधानिक नियम-कानून बनाए गए हैं जिनका पालन करना भारत के नागरिकों का संवैधानिक कर्तव्य है। जो इसका पालन नहीं करता उसके लिए यहाँ की न्यायपालिका द्वारा दंड निर्धारित किए गए हैं। भारत में सभी वर्गों के लिए समान कानून-व्यवस्था बनायी गयी है जो इसके प्रत्येक नागरिक के अधिकारों की सामान्य रूप से सुरक्षा करती है।

SubQuestion No : 16

Q.16 अनुच्छेद के अनुसार हमारे देश ने ब्रिटिशों को यहाँ से जाने के लिए मजबूर क्यों किया?

Ans ☒ 1. उनकी कूटनीतिक नीतियों के कारण

☒ 2. उनके शिल्प व नृत्य के कारण

☒ 3. उनके आकर्षण के कारण

☒ 4. उनकी जनसंख्या के कारण

Question ID : 630680938924
Option 1 ID : 6306803680040
Option 2 ID : 6306803680042
Option 3 ID : 6306803680041
Option 4 ID : 6306803680039

Comprehension:

नीचे दिए गये गद्यांश को ध्यानपूर्वक पढ़ें और इसके आधार पर प्रश्न का उत्तर दें।

हमारे देश भारत की संस्कृति, अनेकता में एकता पर आधारित है। 'अनेकता में एकता' एक शब्द ही नहीं बल्कि यह इस देश की संस्कृति और विरासत पर पूरी तरह लागू होता है। भारत विश्व के नक्शे पर अपनी रंगारंग और अनूठी संस्कृति की अमिट छाप छोड़े हुए हैं। मौर्य, चोल, मुगलकाल और ब्रिटिश साम्राज्य तक यह देश अपनी परंपरा और आतिथ्य के लिए मशहूर रहा है। यह विडम्बना ही है कि हमारे देश ने जिन ब्रिटिशों का व्यापारी और अतिथि के रूप में अपने यहाँ स्वागत किया उन्होंने ही हम पर कई सालों तक राज किया। बाद में ब्रिटिशों की कूटनीति की वजह से भारत ने अनेकता में एकता के दर्शन कराकर उनको यहाँ से जाने के लिए मजबूर कर दिया। इस देश की समृद्ध संस्कृति इसकी शिल्पकला, नृत्य और संगीत की वजह से भी दूर दूर तक फैली हुई है। भारत की संस्कृति अन्य देशों की अपेक्षा अत्यंत आकर्षक है। भारत में लोकतंत्र है। यहाँ रहने वाले सभी व्यक्ति सामान्य आचरण का पालन करें इसके लिए कुछ संवैधानिक नियम-कानून बनाए गए हैं जिनका पालन करना भारत के नागरिकों का संवैधानिक कर्तव्य है। जो इसका पालन नहीं करता उसके लिए यहाँ की न्यायपालिका द्वारा दंड निर्धारित किए गए हैं। भारत में सभी वर्गों के लिए समान कानून-व्यवस्था बनायी गयी है जो इसके प्रत्येक नागरिक के अधिकारों की सामान्य रूप से सुरक्षा करती है।

SubQuestion No : 17

Q.17 निम्नलिखित चार विकल्पों में से, उस विकल्प का चयन करें जो दिए गए शब्द का पर्यायवाची नहीं है

अधिकार

Ans ☒ 1. निजत्व

☒ 2. प्रयास

☒ 3. प्रभुत्व

☒ 4. स्वामित्व

Question ID : 630680938926
Option 1 ID : 6306803680047
Option 2 ID : 6306803680048
Option 3 ID : 6306803680050
Option 4 ID : 6306803680049

Comprehension:

नीचे दिए गये गद्यांश को ध्यानपूर्वक पढ़ें और इसके आधार पर प्रश्न का उत्तर दें।

हमारे देश भारत की संस्कृति, अनेकता में एकता पर आधारित है। 'अनेकता में एकता' एक शब्द ही नहीं बल्कि यह इस देश की संस्कृति और विरासत पर पूरी तरह लागू होता है। भारत विश्व के नक्शे पर अपनी रंगारंग और अनूठी संस्कृति की अमिट छाप छोड़े हुए हैं। मौर्य, चोल, मुगलकाल और ब्रिटिश साम्राज्य तक यह देश अपनी परंपरा और आतिथ्य के लिए मशहूर रहा है। यह विडम्बना ही है कि हमारे देश ने जिन ब्रिटिशों का व्यापारी और अतिथि के रूप में अपने यहाँ स्वागत किया उन्होंने ही हम पर कई सालों तक राज किया। बाद में ब्रिटिशों की कूटनीति की वजह से भारत ने अनेकता में एकता के दर्शन कराकर उनको यहाँ से जाने के लिए मजबूर कर दिया। इस देश की समृद्ध संस्कृति इसकी शिल्पकला, नृत्य और संगीत की वजह से भी दूर दूर तक फैली हुई है। भारत की संस्कृति अन्य देशों की अपेक्षा अत्यंत आकर्षक है। भारत में लोकतंत्र है। यहाँ रहने वाले सभी व्यक्ति सामान्य आचरण का पालन करें इसके लिए कुछ संवैधानिक नियम-कानून बनाए गए हैं जिनका पालन करना भारत के नागरिकों का संवैधानिक कर्तव्य है। जो इसका पालन नहीं करता उसके लिए यहाँ की न्यायपालिका द्वारा दंड निर्धारित किए गए हैं। भारत में सभी वर्गों के लिए समान कानून-व्यवस्था बनायी गयी है जो इसके प्रत्येक नागरिक के अधिकारों की सामान्य रूप से सुरक्षा करती है।

SubQuestion No : 18

Q.18 अनुच्छेद के अनुसार भारत में न्यायपालिका द्वारा दंड किसके लिए निर्धारित किया गया है?

- Ans
- ☒ 1. जो देश छोड़कर न जाए
 - ☒ 2. जो सभी नियम का पालन करें
 - ☒ 3. जो हमेशा देश छोड़कर जाता है
 - ☒ 4. जो नियम का पालन न करें

Question ID : 630680938925
Option 1 ID : 6306803680043
Option 2 ID : 6306803680046
Option 3 ID : 6306803680044
Option 4 ID : 6306803680045

Comprehension:

नीचे दिए गये गद्यांश को ध्यानपूर्वक पढ़ें और इसके आधार पर प्रश्न का उत्तर दें।

हमारे देश भारत की संस्कृति, अनेकता में एकता पर आधारित है। 'अनेकता में एकता' एक शब्द ही नहीं बल्कि यह इस देश की संस्कृति और विरासत पर पूरी तरह लागू होता है। भारत विश्व के नक्शे पर अपनी रंगारंग और अनूठी संस्कृति की अमिट छाप छोड़े हुए हैं। मौर्य, चोल, मुगलकाल और ब्रिटिश साम्राज्य तक यह देश अपनी परंपरा और आतिथ्य के लिए मशहूर रहा है। यह विडम्बना ही है कि हमारे देश ने जिन ब्रिटिशों का व्यापारी और अतिथि के रूप में अपने यहाँ स्वागत किया उन्होंने ही हम पर कई सालों तक राज किया। बाद में ब्रिटिशों की कूटनीति की वजह से भारत ने अनेकता में एकता के दर्शन कराकर उनको यहाँ से जाने के लिए मजबूर कर दिया। इस देश की समृद्ध संस्कृति इसकी शिल्पकला, नृत्य और संगीत की वजह से भी दूर दूर तक फैली हुई है। भारत की संस्कृति अन्य देशों की अपेक्षा अत्यंत आकर्षक है। भारत में लोकतंत्र है। यहाँ रहने वाले सभी व्यक्ति सामान्य आचरण का पालन करें इसके लिए कुछ संवैधानिक नियम-कानून बनाए गए हैं जिनका पालन करना भारत के नागरिकों का संवैधानिक कर्तव्य है। जो इसका पालन नहीं करता उसके लिए यहाँ की न्यायपालिका द्वारा दंड निर्धारित किए गए हैं। भारत में सभी वर्गों के लिए समान कानून-व्यवस्था बनायी गयी है जो इसके प्रत्येक नागरिक के अधिकारों की सामान्य रूप से सुरक्षा करती है।

SubQuestion No : 19

Q.19 इस अनुच्छेद का उपयुक्त शीर्षक-

- Ans
- ☒ 1. हमारा देश भारत
 - ☒ 2. अनूठी संस्कृति
 - ☒ 3. मुगल व ब्रिटिश साम्राज्य
 - ☒ 4. नियम व कानून

Question ID : 630680938923
Option 1 ID : 6306803680035
Option 2 ID : 6306803680038
Option 3 ID : 6306803680037
Option 4 ID : 6306803680036

Comprehension:

नीचे दिए गये गद्यांश को ध्यानपूर्वक पढ़ें और इसके आधार पर प्रश्न का उत्तर दें।

हमारे देश भारत की संस्कृति, अनेकता में एकता पर आधारित है। 'अनेकता में एकता' एक शब्द ही नहीं बल्कि यह इस देश की संस्कृति और विरासत पर पूरी तरह लागू होता है। भारत विश्व के नवशे पर अपनी रंगारंग और अनूठी संस्कृति की अमिट छाप छोड़े हुए हैं। मौर्य, चोल, मुगलकाल और ब्रिटिश साम्राज्य तक यह देश अपनी परंपरा और आतिथ्य के लिए मशहूर रहा है। यह विडम्बना ही है कि हमारे देश ने जिन ब्रिटिशों का व्यापारी और अतिथि के रूप में अपने यहाँ स्वागत किया उन्होंने ही हम पर कई सालों तक राज किया। बाद में ब्रिटिशों की कूटनीति की वजह से भारत ने अनेकता में एकता के दर्शन कराकर उनको यहाँ से जाने के लिए मजबूर कर दिया। इस देश की समृद्ध संस्कृति इसकी शिल्पकला, नृत्य और संगीत की वजह से भी दूर दूर तक फैली हुई है। भारत की संस्कृति अन्य देशों की अपेक्षा अत्यंत आकर्षक है। भारत में लोकतंत्र है। यहाँ रहने वाले सभी व्यक्ति सामान्य आचरण का पालन करें इसके लिए कुछ संवैधानिक नियम-कानून बनाए गए हैं जिनका पालन करना भारत के नागरिकों का संवैधानिक कर्तव्य है। जो इसका पालन नहीं करता उसके लिए यहाँ की न्यायपालिका द्वारा दंड निर्धारित किए गए हैं। भारत में सभी वर्गों के लिए समान कानून-व्यवस्था बनायी गयी है जो इसके प्रत्येक नागरिक के अधिकारों की सामान्य रूप से सुरक्षा करती है।

SubQuestion No : 20

Q.20 निम्नलिखित चार विकल्पों में से, उस विकल्प का चयन करें जो दिए गए शब्द का विलोम है।

सामान्य

- Ans**
- ☒ 1. आसान
 - ☒ 2. साधारण
 - ☒ 3. अद्भुत
 - ☒ 4. मामूली

Question ID : **630680938927**
 Option 1 ID : **6306803680053**
 Option 2 ID : **6306803680052**
 Option 3 ID : **6306803680051**
 Option 4 ID : **6306803680054**