

DSSSB Asst Suprt.

**Previous Year Paper
20 Jul, 2024 Shift 1**



Adda247

Test Prime

ALL EXAMS, ONE SUBSCRIPTION



80,000+
Mock Tests



**Personalised
Report Card**



**Unlimited
Re-Attempt**



600+
Exam Covered



20,000+ Previous
Year Papers



500%
Refund



ATTEMPT FREE MOCK NOW



GOVT. OF NCT OF DELHI
Delhi Subordinate Services Selection Board
FC-18, Institutional Area, Karkardooma, Delhi – 110092.
www.dsssb.delhigovt.nic.in

Participant ID	
Participant Name	
Test Center Name	
Test Date	20/07/2024
Test Time	8:30 AM - 10:30 AM
Subject	Assistant Superintendent

Section : General intelligence and Reasoning Ability 1

Q.1 Consider the five three-digit numbers given below and the answer the questions based on it.

(Left) 176 267 753 159 258 (Right)

What will be the sum of unit's digit of all the given three digit numbers?

- Ans ☒ 1. 33
☐ 2. 32
☐ 3. 31
☐ 4. 30

Question ID : 630680938130
Option 1 ID : 6306803676997
Option 2 ID : 6306803676998
Option 3 ID : 6306803677000
Option 4 ID : 6306803676999

Q.2 Select that missing pair (Third letter cluster : Fourth letter cluster) which is related in the same way as the first letter cluster is related to the second letter cluster and fifth letter cluster is related to sixth letter cluster.

NPT : KMQ :: ? :: HKO : EHL

- Ans ☐ 1. OIF : RLD
☒ 2. BDE : YAB
☐ 3. GPT : DSW
☐ 4. RWX : OYW

Question ID : 630680938177
Option 1 ID : 6306803677188
Option 2 ID : 6306803677186
Option 3 ID : 6306803677185
Option 4 ID : 6306803677187

Q.3 Select the option that is related to the sixth number cluster in the same way as the first number cluster is related to the second number cluster and third number cluster is related to fourth number cluster. (NOTE: Operations should be performed on the whole numbers, without breaking down the numbers into its constituent digits. E.g.13 – Operations on 13 such as adding /subtracting /multiplying etc. to 13 can be performed. Breaking down 13 into 1 and 3 and then performing mathematical operations on 1 and 3 is not allowed)

41 : 164 :: 35 : 140 :: ? : 208

- Ans
- ☒ 1. 51
 - ☒ 2. 50
 - ☒ 3. 52
 - ☒ 4. 53

Question ID : 630680938116
Option 1 ID : 6306803676941
Option 2 ID : 6306803676942
Option 3 ID : 6306803676944
Option 4 ID : 6306803676943

Q.4 If 13 g 9 = 44 and 15 g 7 = 88, then 19 g 17 = ?

- Ans
- ☒ 1. 78
 - ☒ 2. 36
 - ☒ 3. 64
 - ☒ 4. 42

Question ID : 630680938110
Option 1 ID : 6306803676918
Option 2 ID : 6306803676920
Option 3 ID : 6306803676917
Option 4 ID : 6306803676919

Q.5 Select the option that is related to the fifth number cluster in the same way as the second number cluster is related to the first number cluster and fourth number cluster is related to third number cluster. (NOTE: Operations should be performed on the whole numbers, without breaking down the numbers into its constituent digits. E.g.13 – Operations on 13 such as adding /subtracting /multiplying etc. to 13 can be performed. Breaking down 13 into 1 and 3 and then performing mathematical operations on 1 and 3 is not allowed)

9 : 728 :: 11 : 1330 :: 22 : ?

- Ans
- ☒ 1. 10649
 - ☒ 2. 10648
 - ☒ 3. 10646
 - ☒ 4. 10647

Question ID : 630680938035
Option 1 ID : 6306803676619
Option 2 ID : 6306803676618
Option 3 ID : 6306803676620
Option 4 ID : 6306803676617

Q.6 Select that missing pair (Third letter cluster : Fourth letter cluster) which is related in the same way as the first letter cluster is related to the second letter cluster and fifth letter cluster is related to sixth letter cluster.

NRS : LPQ :: ? :: EHK : CFI

- Ans
- ☒ 1. RTU : TVW
 - ☒ 2. NPS : PNU
 - ☒ 3. BGH : ZEF
 - ☒ 4. IKM : KNO

Question ID : 630680938097
Option 1 ID : 6306803676865
Option 2 ID : 6306803676866
Option 3 ID : 6306803676867
Option 4 ID : 6306803676868

Q.7 If 7 P 9 S 4 = 32.5 and 6 P 10 S 2 = 68, then 8 P 12 S 4 = ?

- Ans
- ☒ 1. 64
 - ☒ 2. 58
 - ☒ 3. 50
 - ☒ 4. 52

Question ID : 630680937990
Option 1 ID : 6306803676440
Option 2 ID : 6306803676439
Option 3 ID : 6306803676437
Option 4 ID : 6306803676438

Q.8 In the following question, select the missing number from the given series.

23, 24, 50, 153, 616, ?

- Ans
- ☒ 1. 3085
 - ☒ 2. 3083
 - ☒ 3. 3086
 - ☒ 4. 3084

Question ID : 630680938114
Option 1 ID : 6306803676935
Option 2 ID : 6306803676933
Option 3 ID : 6306803676936
Option 4 ID : 6306803676934

Q.9 Select the option that is related to the third number cluster in the same way as the second number cluster is related to the first number cluster and sixth number cluster is related to fifth number cluster. (NOTE: Operations should be performed on the whole numbers, without breaking down the numbers into its constituent digits. E.g.13 – Operations on 13 such as adding /subtracting /multiplying etc. to 13 can be performed. Breaking down 13 into 1 and 3 and then performing mathematical operations on 1 and 3 is not allowed)

304 : 76 :: 248 : ? :: 156 : 39

- Ans
- ☒ 1. 61
 - ☒ 2. 63
 - ☒ 3. 62
 - ☒ 4. 60

Question ID : 630680937996
Option 1 ID : 6306803676463
Option 2 ID : 6306803676461
Option 3 ID : 6306803676464
Option 4 ID : 6306803676462

Q.10 'A × B' means 'A is the mother of B', 'A ÷ B' means 'A is the son of B', 'A – B' means 'A is the sister of B'. If N – M ÷ P × Q ÷ K, then how is K related to N?

- Ans
- ☒ 1. Brother
 - ☒ 2. Paternal Grandfather
 - ☒ 3. Son
 - ☒ 4. Father

Question ID : 630680938132
Option 1 ID : 6306803677008
Option 2 ID : 6306803677005
Option 3 ID : 6306803677006
Option 4 ID : 6306803677007

Q.11 Arrange the given words in the sequence in which they occur in the dictionary.

- 1. Dairy
- 2. Daily
- 3. Daintly
- 4. Daisy
- 5. Dais

- Ans
- ☒ 1. 13245
 - ☒ 2. 23154
 - ☒ 3. 13254
 - ☒ 4. 23145

Question ID : 630680938087
Option 1 ID : 6306803676826
Option 2 ID : 6306803676827
Option 3 ID : 6306803676828
Option 4 ID : 6306803676825

Q.12 After arranging the given words according to dictionary order, which word will come at 'Third' position?

- 1. Very
- 2. Vest
- 3. Verve
- 4. Vex
- 5. Vetch

Ans ☒ 1. Verve
☒ 2. Very
☒ 3. Vest
☒ 4. Vex

Question ID : 630680938169
Option 1 ID : 6306803677156
Option 2 ID : 6306803677153
Option 3 ID : 6306803677154
Option 4 ID : 6306803677155

Q.13 Consider the five three digit numbers given below and the answer the questions based on it.

(Left) 424 251 576 196 841 (Right)

What will be the sum of hundredth digit of the given three digit numbers?

Ans ☒ 1. 25
☒ 2. 27
☒ 3. 22
☒ 4. 20

Question ID : 630680937929
Option 1 ID : 6306803676196
Option 2 ID : 6306803676194
Option 3 ID : 6306803676195
Option 4 ID : 6306803676193

Q.14 A is the mother of B. B is the sister of C. C is the wife of D. D is the father of E. How A is related to C?

Ans ☒ 1. Sister
☒ 2. Brother
☒ 3. Father
☒ 4. Mother

Question ID : 630680938091
Option 1 ID : 6306803676841
Option 2 ID : 6306803676844
Option 3 ID : 6306803676843
Option 4 ID : 6306803676842

Q.15 If 'H' means '÷', 'I' means '×', 'J' means '+' and 'K' means '-', then which of the following equation is correct?

- Ans
- ☒ 1. $10\ H\ 5\ J\ 8\ I\ 4\ K\ 3 = 29$
 - ☒ 2. $100\ J\ 90\ H\ 30\ K\ 3\ I\ 40 = 17$
 - ☒ 3. $100\ H\ 50\ I\ 30\ J\ 40\ K\ 20 = 80$
 - ☒ 4. $8\ H\ 6\ I\ 12\ J\ 8\ K\ 4 = 18$

Question ID : 630680938111
Option 1 ID : 6306803676924
Option 2 ID : 6306803676921
Option 3 ID : 6306803676923
Option 4 ID : 6306803676922

Q.16 In a certain code language, 'HOUSED' is written as 'JAUAKJ'. What is the code for 'JUNGLE' in that code language?

- Ans
- ☒ 1. KHITQL
 - ☒ 2. KIHTLQ
 - ☒ 3. KHTIQL
 - ☒ 4. KHHTQL

Question ID : 630680938206
Option 1 ID : 6306803677302
Option 2 ID : 6306803677301
Option 3 ID : 6306803677303
Option 4 ID : 6306803677304

Q.17 In a certain code language, 'WEST' is coded as 'XFTU', 'EAST' is coded as 'FBTU'. How will 'RIGHT' be coded in that code language?

- Ans
- ☒ 1. SJHIV
 - ☒ 2. SJHIU
 - ☒ 3. SIHIU
 - ☒ 4. SJGIU

Question ID : 630680938164
Option 1 ID : 6306803677133
Option 2 ID : 6306803677136
Option 3 ID : 6306803677135
Option 4 ID : 6306803677134

Q.18 In a certain code language, 'TEST' is coded as 'RCQR', 'APPLE' is coded as 'YNNJC'. How will 'LIGHT' be coded in that code language?

- Ans
- ☒ 1. JGEFS
 - ☒ 2. JGEFR
 - ☒ 3. JGFER
 - ☒ 4. JHEFR

Question ID : 630680937965
Option 1 ID : 6306803676340
Option 2 ID : 6306803676338
Option 3 ID : 6306803676339
Option 4 ID : 6306803676337

Q.19 Select that missing pair (Third letter cluster : Fourth letter cluster) which is related in the same way as the first letter cluster is related to the second letter cluster and fifth letter cluster is related to sixth letter cluster.

RST : UVW :: ? :: GHJ : JKM

- Ans ☒ 1. BTC : EWF
- ☐ 2. DFH : FIJ
- ☐ 3. GKM : JIP
- ☐ 4. MNU : JQR

Question ID : 630680938098
Option 1 ID : 6306803676871
Option 2 ID : 6306803676870
Option 3 ID : 6306803676869
Option 4 ID : 6306803676872

Q.20 In the following question, select the missing number from the given series.

222, 214, 206, 198, 190, ?

- Ans ☒ 1. 182
- ☐ 2. 183
- ☐ 3. 184
- ☐ 4. 181

Question ID : 630680938153
Option 1 ID : 6306803677090
Option 2 ID : 6306803677091
Option 3 ID : 6306803677092
Option 4 ID : 6306803677089

Section : General intelligence and Reasoning Ability 2

Q.1 Sonal is 16 places ahead of Preeti in the row of 40 students. If Preeti's position is 15th from the bottom, what is Sonal's position from the top?

- Ans ☒ 1. 10th
- ☐ 2. 12th
- ☐ 3. 11th
- ☐ 4. 13th

Question ID : 630680938201
Option 1 ID : 6306803677282
Option 2 ID : 6306803677283
Option 3 ID : 6306803677281
Option 4 ID : 6306803677284

Q.2 In the following question below are given some statements followed by some conclusions based on those statements. Taking the given statements to be true even if they seem to be at variance from commonly known facts. Read all the conclusions and then decide which of the given conclusion logically follows the given statements.

Statements:

- I. Some F are G.
- II. No G is H.
- III. Some H are J.

Conclusion:

- I. Some J are G.
- II. Some H are G.
- III. No J is F.

- Ans
- ☒ 1. Only conclusion III follows
 - ☒ 2. Only conclusion II follows
 - ☒ 3. Only conclusion I follows
 - ☒ 4. Neither conclusion follows

Question ID : 630680938134
Option 1 ID : 6306803677015
Option 2 ID : 6306803677014
Option 3 ID : 6306803677013
Option 4 ID : 6306803677016

Q.3 Raman's position is 11th from top and 21th from bottom in a row of people. How many people are there in the row?

- Ans
- ☒ 1. 31
 - ☒ 2. 29
 - ☒ 3. 32
 - ☒ 4. 30

Question ID : 630680938041
Option 1 ID : 6306803676641
Option 2 ID : 6306803676644
Option 3 ID : 6306803676642
Option 4 ID : 6306803676643

Q.4 A series is given with one term missing. Select the correct alternative from the given ones that will complete the series.

PK, MI, JG, GE, ?

- Ans
- ☒ 1. DD
 - ☒ 2. DC
 - ☒ 3. DA
 - ☒ 4. DB

Question ID : 630680937946
Option 1 ID : 6306803676262
Option 2 ID : 6306803676263
Option 3 ID : 6306803676261
Option 4 ID : 6306803676264

Q.5 In the following question below are given some statements followed by some conclusions based on those statements. Taking the given statements to be true even if they seem to be at variance from commonly known facts. Read all the conclusions and then decide which of the given conclusion logically follows the given statements.

Statements:

- I. All W are X.
- II. Some N are X.
- III. Some W are J.

Conclusions:

- I. Some X are J.
- II. Some W are not N.
- III. Some N are not X.

- Ans ☒ 1. Only conclusion I follows
- ☐ 2. Only conclusion III follows
- ☐ 3. Neither conclusion follows
- ☐ 4. Only conclusion II follows

Question ID : 630680938015
Option 1 ID : 6306803676537
Option 2 ID : 6306803676539
Option 3 ID : 6306803676540
Option 4 ID : 6306803676538

Q.6 7 boys A, B, C, D, E, F and G are sitting in a row facing towards north (not necessarily in the same order). Only two boys are sitting to the left of B. Five boys are sitting between A and C. G is fifth to the left of C. E is the immediate neighbour of D and F. Maximum how many boys can be there to the left of D?

- Ans ☐ 1. 3
- ☐ 2. 2
- ☒ 3. 5
- ☐ 4. 4

Question ID : 630680938120
Option 1 ID : 6306803676957
Option 2 ID : 6306803676959
Option 3 ID : 6306803676960
Option 4 ID : 6306803676958

Q.7 In the following question, select the odd letter/letters from the given alternatives.

- Ans ☐ 1. HLK
- ☒ 2. POK
- ☐ 3. DHG
- ☐ 4. BFE

Question ID : 630680937980
Option 1 ID : 6306803676398
Option 2 ID : 6306803676399
Option 3 ID : 6306803676397
Option 4 ID : 6306803676400

Q.8 In the following question, four letter pairs are given. The letters on left side of (–) is related to the letters on the right side of (–) with some Logic/Rule/Relation. Three are similar on basis of same Logic/Rule/Relation. Select the odd one out from the given alternatives.

Ans  1. PCB – TGW

 2. WON – DRM

 3. MLA – NOZ

 4. JIT – QLG

Question ID : 630680937983

Option 1 ID : 6306803676410

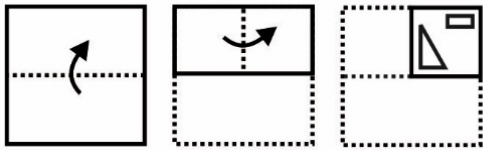
Option 2 ID : 6306803676412

Option 3 ID : 6306803676409

Option 4 ID : 6306803676411



Q.9 A piece of paper is folded and punched as shown below in the question figures. From the given option figures, indicate how it will appear when opened?



Ans

✗ 1.



✗ 2.



✓ 3.



✗ 4.



Question ID : 630680938187
Option 1 ID : 6306803677225
Option 2 ID : 6306803677227
Option 3 ID : 6306803677226
Option 4 ID : 6306803677228

Q.10 In the following question, select the odd letter/letters from the given alternatives.

- Ans ☒ 1. BDF
☒ 2. MOQ
☒ 3. DFH
☒ 4. QOL

Question ID : 630680938141
Option 1 ID : 6306803677042
Option 2 ID : 6306803677044
Option 3 ID : 6306803677041
Option 4 ID : 6306803677043

Q.11 In the following question, select the odd letter/letters from the given alternatives.

- Ans ☒ 1. FHK
☒ 2. RTW
☒ 3. TVY
☒ 4. FCA

Question ID : 630680938142
Option 1 ID : 6306803677046
Option 2 ID : 6306803677047
Option 3 ID : 6306803677048
Option 4 ID : 6306803677045

Q.12 A series is given with one term missing. Select the correct alternative from the given ones that will complete the series.

AN, ?, MZ, SF, YL

- Ans ☒ 1. IU
☒ 2. ES
☒ 3. FR
☒ 4. GT

Question ID : 630680938065
Option 1 ID : 6306803676740
Option 2 ID : 6306803676738
Option 3 ID : 6306803676737
Option 4 ID : 6306803676739

Q.13 Which answer figure will complete the pattern in the question figure?



Ans

✗ 1.



✗ 2.



✗ 3.



✓ 4.



Question ID : 630680938147
Option 1 ID : 6306803677067
Option 2 ID : 6306803677068
Option 3 ID : 6306803677066
Option 4 ID : 6306803677065

Q.14 6 boys D, E, F, G, H and J are sitting around a circular table facing towards the centre. E is fourth to the right of F. G is to the immediate right of E. D is the immediate neighbour of E and J. Who is third to the right of E?

Ans

✗ 1. D

✗ 2. G

✓ 3. H

✗ 4. J

Question ID : 630680938199
Option 1 ID : 6306803677275
Option 2 ID : 6306803677276
Option 3 ID : 6306803677273
Option 4 ID : 6306803677274

Q.15 Five friends P, B, C, G and H are sitting around a circular table facing towards the centre. B is second to the left of H. G is the neighbour of B and H. C is not the neighbour of B. Who is sitting second to the right of G?

- Ans
- ☒ 1. H
 - ☒ 2. C
 - ☒ 3. B
 - ☒ 4. P

Question ID : 630680937998
Option 1 ID : 6306803676471
Option 2 ID : 6306803676470
Option 3 ID : 6306803676472
Option 4 ID : 6306803676469

Q.16 A series is given with one term missing. Select the correct alternative from the given ones that will complete the series.

AD, BG, CJ, ?, EP

- Ans
- ☒ 1. FO
 - ☒ 2. DM
 - ☒ 3. HK
 - ☒ 4. GI

Question ID : 630680938106
Option 1 ID : 6306803676901
Option 2 ID : 6306803676904
Option 3 ID : 6306803676903
Option 4 ID : 6306803676902

Q.17 In the following question below are given some statements followed by some conclusions based on those statements. Taking the given statements to be true even if they seem to be at variance from commonly known facts. Read all the conclusions and then decide which of the given conclusion logically follows the given statements.

Statements:

- I. Some P are M.
- II. Some N are M.
- III. No S is M.

Conclusions:

- I. Some N are not S.
- II. Some M are N.
- III. Some M are P.

- Ans
- ☒ 1. Both conclusions I and III follows
 - ☒ 2. All conclusion follows
 - ☒ 3. Both conclusions II and III follows
 - ☒ 4. Both conclusions I and II follows

Question ID : 630680938213
Option 1 ID : 6306803677331
Option 2 ID : 6306803677332
Option 3 ID : 6306803677330
Option 4 ID : 6306803677329

Q.18 In the following question, group of letter clusters is given. The letter clusters of each group are related with the other letter clusters of the same group by some Logic/Rule/Relation. From the given alternatives, select the group of letter clusters which follows the same Logic/Rule/Relation.


(RU, PQ, NM)
(NV, LR, JN)

- Ans ☒ 1. (CH, AD, YX)
☒ 2. (ZO, XK, VG)
☒ 3. (JQ, HM, EH)
☒ 4. (DN, BJ, ZE)

Question ID : 630680938139
Option 1 ID : 6306803677036
Option 2 ID : 6306803677033
Option 3 ID : 6306803677034
Option 4 ID : 6306803677035



Q.19 Which figure is similar to the given figures?



Ans

✗ 1.




✓ 2.



✗ 3.



✗ 4.



Question ID : 630680938189
Option 1 ID : 6306803677234
Option 2 ID : 6306803677235
Option 3 ID : 6306803677233
Option 4 ID : 6306803677236

Q.20 Seven friends namely – C1, C2, C3, C4, C5, C6 and C7 are living in a building of seven floors, lowermost floor is numbered 1, floor above it is numbered 2 and so on till the top-most floor which is numbered 7. Each person lives on a single floor. C1 lives on a floor numbered four. No one lives below C7. Number of persons who live between C6 and C1 are same as the number of persons who live between C1 and C5. C2 lives four floor above C4. C6 lives above C4, but Not immediately. Only one friend lives between C3 and C2. Who lives in between C7 and C4?

- Ans
- ✓ 1. C5
 - ✗ 2. C2
 - ✗ 3. C1
 - ✗ 4. C3

Question ID : 630680938003
Option 1 ID : 6306803676492
Option 2 ID : 6306803676490
Option 3 ID : 6306803676489
Option 4 ID : 6306803676491

Section : General Awareness 1

Q.1 Which of the following tiger reserves has been declared as India's first Dark Sky Park, offering pristine night sky without light pollution?

- Ans
- ✗ 1. Orang Tiger Reserve
 - ✗ 2. Namdapha Tiger Reserve
 - ✗ 3. Kamlang Tiger Reserve
 - ✓ 4. Pench Tiger Reserve

Question ID : 630680939392
Option 1 ID : 6306803681994
Option 2 ID : 6306803681991
Option 3 ID : 6306803681992
Option 4 ID : 6306803681993

Q.2 Who among the following released the Manual for Disaster Management Plan (DMP) in July 2023?

- Ans
- ✗ 1. Bhupender Yadav
 - ✗ 2. Arjun Munda
 - ✗ 3. Dharmendra Pradhan
 - ✓ 4. Gajendra Singh Shekhawat

Question ID : 630680939554
Option 1 ID : 6306803682640
Option 2 ID : 6306803682639
Option 3 ID : 6306803682642
Option 4 ID : 6306803682641

Q.3 Which of the following schemes was launched on 5 April 2016 to promote entrepreneurship at grassroot level focusing on economic empowerment and job creation and has been extended till the year 2025?

- Ans
- ☐ 1. Udan Scheme
 - ☐ 2. Startup India
 - ☐ 3. MUDRA Yojana
 - ☒ 4. Stand-Up India

Question ID : 630680939475
Option 1 ID : 6306803682324
Option 2 ID : 6306803682323
Option 3 ID : 6306803682325
Option 4 ID : 6306803682326

Q.4 Which of the following tribal languages is NOT spoken in the Nilgiri region?

- Ans
- ☐ 1. Toda
 - ☒ 2. Ao
 - ☐ 3. Irula
 - ☐ 4. Kota

Question ID : 630680939449
Option 1 ID : 6306803682219
Option 2 ID : 6306803682221
Option 3 ID : 6306803682220
Option 4 ID : 6306803682222

Q.5 In November 2023, which of the following institutions joined hands to operationalize the National Health Claim Exchange (NHCX)?

- I. The National Health Authority (NHA)
- II. The Insurance Regulatory and Development Authority of India (IRDAI)

- Ans
- ☐ 1. Neither I nor II
 - ☐ 2. Only I
 - ☒ 3. Both I and II
 - ☐ 4. Only II

Question ID : 630680939316
Option 1 ID : 6306803681690
Option 2 ID : 6306803681687
Option 3 ID : 6306803681689
Option 4 ID : 6306803681688

Q.6 In which of the following cities are the headquarters of the International Sugar Organization (ISO) located?

- Ans
- ☐ 1. Manila
 - ☐ 2. Tokyo
 - ☒ 3. London
 - ☐ 4. Paris

Question ID : 630680939390
Option 1 ID : 6306803681986
Option 2 ID : 6306803681985
Option 3 ID : 6306803681984
Option 4 ID : 6306803681983

Q.7 In which of the following years was the first malaria vaccine, RTS, S, recommended by WHO to prevent malaria in children?

- Ans
- ☐ 1. 2018
 - ☐ 2. 2014
 - ☒ 3. 2021
 - ☐ 4. 2010

Question ID : 630680939548
Option 1 ID : 6306803682616
Option 2 ID : 6306803682617
Option 3 ID : 6306803682615
Option 4 ID : 6306803682618

Q.8 Human Genome Project (HGP) was closely associated with the rapid development of a new area in biology called ____.

- Ans
- ☐ 1. Biomagnification
 - ☐ 2. Bioaccumulation
 - ☒ 3. Bioinformatics
 - ☐ 4. Biodiversity

Question ID : 630680939465
Option 1 ID : 6306803682284
Option 2 ID : 6306803682286
Option 3 ID : 6306803682283
Option 4 ID : 6306803682285

Q.9 "Wangala" festival is celebrated by which of the following tribes of Meghalaya?

- Ans
- ☐ 1. Jaintia
 - ☒ 2. Garo
 - ☐ 3. Khasi
 - ☐ 4. Riang

Question ID : 630680939491
Option 1 ID : 6306803682387
Option 2 ID : 6306803682389
Option 3 ID : 6306803682388
Option 4 ID : 6306803682390

Q.10 Which of the following is the first book in any Indian language to win the prestigious International Booker Prize?

- Ans
- ☒ 1. The Blue Umbrella
 - ☒ 2. The Room on the Roof
 - ☒ 3. A Flight of Pigeons
 - ☒ 4. Tomb of Sand

Question ID : 630680939608
Option 1 ID : 6306803682855
Option 2 ID : 6306803682856
Option 3 ID : 6306803682857
Option 4 ID : 6306803682858

Q.11 Bonalu festival is celebrated in which state of India?

- Ans
- ☒ 1. Goa
 - ☒ 2. Telangana
 - ☒ 3. Sikkim
 - ☒ 4. Assam

Question ID : 630680939372
Option 1 ID : 6306803681911
Option 2 ID : 6306803681914
Option 3 ID : 6306803681912
Option 4 ID : 6306803681913

Q.12 In May 2023, researchers from which of the following institutes developed a new type of electrolyte using 'pyrylium salts', a class of organic chemicals?

- Ans
- ☒ 1. IIT-Mumbai
 - ☒ 2. IISc Bengaluru
 - ☒ 3. IIT-Guwahati
 - ☒ 4. IIT-Madras

Question ID : 630680939477
Option 1 ID : 6306803682331
Option 2 ID : 6306803682334
Option 3 ID : 6306803682332
Option 4 ID : 6306803682333

Q.13 Who among the following is the author of "Ret Samadhi"?

- Ans
- ☒ 1. Deepti Kapoor
 - ☒ 2. Arundhati Roy
 - ☒ 3. Geetanjali Shree
 - ☒ 4. Mahadevi Verma

Question ID : 630680939567
Option 1 ID : 6306803682691
Option 2 ID : 6306803682694
Option 3 ID : 6306803682693
Option 4 ID : 6306803682692

Q.14 Malayalam language is spoken in which state of India?

- Ans ☒ 1. Kerala
☒ 2. Karnataka
☒ 3. Goa
☒ 4. Andhra Pradesh

Question ID : 630680939490
 Option 1 ID : 6306803682386
 Option 2 ID : 6306803682384
 Option 3 ID : 6306803682385
 Option 4 ID : 6306803682383

Q.15 National Institute of Virology is located in which city of India?

- Ans ☒ 1. Noida
☒ 2. Pune
☒ 3. Nasik
☒ 4. Bhopal

Question ID : 630680939318
 Option 1 ID : 6306803681698
 Option 2 ID : 6306803681697
 Option 3 ID : 6306803681695
 Option 4 ID : 6306803681696

Q.16 Which of the following algae rich in proteins is used as food supplements by space travellers?

- Ans ☒ 1. Dictyota
☒ 2. Fucus
☒ 3. Chlorella
☒ 4. Porphyra

Question ID : 630680939425
 Option 1 ID : 6306803682125
 Option 2 ID : 6306803682126
 Option 3 ID : 6306803682123
 Option 4 ID : 6306803682124

Q.17 Which of the following wildlife sanctuaries has been developed as the second home of cheetahs in India?

- Ans ☒ 1. Periyar Wildlife Sanctuary
☒ 2. Bhadra Wildlife Sanctuary
☒ 3. Sariska Wildlife Sanctuary
☒ 4. Gandhi Sagar Wildlife Sanctuary

Question ID : 630680939513
 Option 1 ID : 6306803682477
 Option 2 ID : 6306803682476
 Option 3 ID : 6306803682478
 Option 4 ID : 6306803682475

Q.18 Which of the following is the implementing agency for Green Energy Corridor (GEC) Phase-II – Inter-State Transmission System (ISTS) for 13 GW renewable energy project in Ladakh?

- Ans** ☒ 1. Power Grid Corporation of India Limited (POWERGRID)
☐ 2. National Thermal Power Corporation (NTPC) Limited
☐ 3. National Hydroelectric Power Corporation (NHPC) Limited
☐ 4. North Eastern Electric Power Corporation (NEEPCO)

Question ID : 630680939517
 Option 1 ID : 6306803682491
 Option 2 ID : 6306803682492
 Option 3 ID : 6306803682493
 Option 4 ID : 6306803682494

Q.19 Who among the following invented television?

- Ans** ☐ 1. Theodore Case
☐ 2. J. J. Thomson
☒ 3. John Logie Baird
☐ 4. Blaise Pascal

Question ID : 630680939388
 Option 1 ID : 6306803681976
 Option 2 ID : 6306803681978
 Option 3 ID : 6306803681975
 Option 4 ID : 6306803681977

Q.20 Playing for which team, Ashutosh Sharma broke the 16-year-old record held by former Indian cricketer Yuvraj Singh for the fastest half-century scored by an Indian batsman in T-20?

- Ans** ☐ 1. Rajasthan
☐ 2. Punjab
☐ 3. Uttar Pradesh
☒ 4. Railways

Question ID : 630680939591
 Option 1 ID : 6306803682790
 Option 2 ID : 6306803682788
 Option 3 ID : 6306803682789
 Option 4 ID : 6306803682787

Q.1 Which of the following cannot be digested by the human body?

- Ans ☒ 1. Cellulose
☒ 2. Proteins
☒ 3. Fats
☒ 4. Vitamins

Question ID : 630680939386
 Option 1 ID : 6306803681968
 Option 2 ID : 6306803681967
 Option 3 ID : 6306803681970
 Option 4 ID : 6306803681969

Q.2 In the double-helix structure of human DNA, base Adenine forms two hydrogen bonds with which of the following bases to form a base-pair?

- Ans ☒ 1. Guanine
☒ 2. Cytosine
☒ 3. Thymine
☒ 4. Histone

Question ID : 630680939427
 Option 1 ID : 6306803682131
 Option 2 ID : 6306803682133
 Option 3 ID : 6306803682132
 Option 4 ID : 6306803682134

Q.3 Which of the following is a tributary of Damodar river?

- Ans ☒ 1. Barak
☒ 2. Arun
☒ 3. Barakar
☒ 4. Sankosh

Question ID : 630680939374
 Option 1 ID : 6306803681920
 Option 2 ID : 6306803681921
 Option 3 ID : 6306803681922
 Option 4 ID : 6306803681919

Q.4 The Comptroller and Auditor-General of India shall hold office for a term of ____ from the date on which he assumes such office.

- Ans ☒ 1. Seven years
☒ 2. Six years
☒ 3. Five years
☒ 4. Four years

Question ID : 630680939421
 Option 1 ID : 6306803682110
 Option 2 ID : 6306803682109
 Option 3 ID : 6306803682108
 Option 4 ID : 6306803682107

Q.5 Who was the founder of the Satyashodhak Samaj?

- Ans
- ☐ 1. Dr B.R. Ambedkar
 - ☐ 2. Shri Narayana Guru
 - ☐ 3. E.V. Ramaswamy Naicker
 - ☒ 4. Jyotirao Phule

Question ID : 630680939563
Option 1 ID : 6306803682677
Option 2 ID : 6306803682675
Option 3 ID : 6306803682676
Option 4 ID : 6306803682678

Q.6 Which of the following term is used to denote plants of a particular region or period?

- Ans
- ☐ 1. Biodiversity
 - ☐ 2. Ecosystem
 - ☐ 3. Fauna
 - ☒ 4. Flora

Question ID : 630680939495
Option 1 ID : 6306803682405
Option 2 ID : 6306803682406
Option 3 ID : 6306803682404
Option 4 ID : 6306803682403

Q.7 Which of the following is direct tax?

- I. Service tax
II. Corporation tax

- Ans
- ☐ 1. Only I
 - ☒ 2. Only II
 - ☐ 3. Neither I nor II
 - ☐ 4. Both I and II

Question ID : 630680939521
Option 1 ID : 6306803682507
Option 2 ID : 6306803682508
Option 3 ID : 6306803682510
Option 4 ID : 6306803682509

Q.8 In which year were the Fundamental Duties added to the Indian Constitution?

- Ans
- ☐ 1. 1971
 - ☐ 2. 1993
 - ☐ 3. 1986
 - ☒ 4. 1976

Question ID : 630680939619
Option 1 ID : 6306803682899
Option 2 ID : 6306803682902
Option 3 ID : 6306803682901
Option 4 ID : 6306803682900

Q.9 In which Article of the Indian Constitution is the provision for reservation of seats for Scheduled Castes and Scheduled Tribes in the Lok Sabha?

- Ans ☒ 1. Article 330
☒ 2. Article 148
☒ 3. Article 280
☒ 4. Article 213

Question ID : 630680939502
 Option 1 ID : 6306803682431
 Option 2 ID : 6306803682434
 Option 3 ID : 6306803682432
 Option 4 ID : 6306803682433

Q.10 Which of the following factors determines the climate of India?

- I. Distance from sea
 II. Distribution of land and water

- Ans ☒ 1. Only II
☒ 2. Only I
☒ 3. Both I and II
☒ 4. Neither I nor II

Question ID : 630680939414
 Option 1 ID : 6306803682080
 Option 2 ID : 6306803682079
 Option 3 ID : 6306803682081
 Option 4 ID : 6306803682082

Q.11 Which of the following is a left bank tributary of Yamuna River?

- Ans ☒ 1. Chambal
☒ 2. Ken
☒ 3. Hindan
☒ 4. Betwa

Question ID : 630680939494
 Option 1 ID : 6306803682399
 Option 2 ID : 6306803682400
 Option 3 ID : 6306803682402
 Option 4 ID : 6306803682401

Q.12 Which of the following money form are also known as aggregate monetary resources?

- Ans ☒ 1. M2
☒ 2. M3
☒ 3. M4
☒ 4. M1

Question ID : 630680939602
 Option 1 ID : 6306803682832
 Option 2 ID : 6306803682833
 Option 3 ID : 6306803682834
 Option 4 ID : 6306803682831

Q.13 The expenses of the Union Public Service commission including any salaries, allowances and pensions payable to or in respect of the members or employees of the Commission shall be charged on which of the following?

- I Consolidated Fund of India
II. Contingency Funds of India

- Ans ☒ 1. Only I
☒ 2. Both I and II
☒ 3. Only II
☒ 4. Neither I nor II

Question ID : 630680939423
Option 1 ID : 6306803682115
Option 2 ID : 6306803682117
Option 3 ID : 6306803682116
Option 4 ID : 6306803682118

Q.14 What was the adult (15+ years) literacy rate over all of India, as per the Census 2011?

- Ans ☒ 1. 65 per cent
☒ 2. 59 per cent
☒ 3. 79 per cent
☒ 4. 76 per cent

Question ID : 630680939338
Option 1 ID : 6306803681776
Option 2 ID : 6306803681775
Option 3 ID : 6306803681777
Option 4 ID : 6306803681778

Q.15



Which of the following fundamental rights has been violated in the above picture?

- Ans ☒ 1. Right to freedom of religion
☒ 2. Right to life and personal liberty
☒ 3. Right against exploitation
☒ 4. Right to equality

Question ID : 630680939460
Option 1 ID : 6306803682263
Option 2 ID : 6306803682264
Option 3 ID : 6306803682266
Option 4 ID : 6306803682265

Q.16 Who was Governor General of India when the Nawab of Awadh was forced to give over half of his territory to the East India Company in 1801?

- Ans
- ✓ 1. Richard Wellesley
 - ✗ 2. Warren Hastings
 - ✗ 3. Charles Cornwallis
 - ✗ 4. Robert Clive

Question ID : 630680939404
Option 1 ID : 6306803682040
Option 2 ID : 6306803682042
Option 3 ID : 6306803682041
Option 4 ID : 6306803682039

Q.17 Which of the following Constitutional Amendment Act is related to GST reform?

- Ans
- ✗ 1. 86th Constitution Amendment Act
 - ✗ 2. 105th Constitution Amendment Act
 - ✗ 3. 93rd Constitution Amendment Act
 - ✓ 4. 101th Constitution Amendment Act

Question ID : 630680939440
Option 1 ID : 6306803682183
Option 2 ID : 6306803682186
Option 3 ID : 6306803682184
Option 4 ID : 6306803682185

Q.18 As per census 2011, what was the workforce participation rate for women at the all-India level?

- Ans
- ✗ 1. 36.21 %
 - ✓ 2. 25.51 %
 - ✗ 3. 45.52 %
 - ✗ 4. 18.35 %

Question ID : 630680939377
Option 1 ID : 6306803681932
Option 2 ID : 6306803681933
Option 3 ID : 6306803681931
Option 4 ID : 6306803681934

Q.19 In _____ Rama Raya, the chief minister of Vijayanagara, led the army into battle at Rakshasi-Tangadi (also known as Talikota), where his forces were routed by the combined armies of Bijapur, Ahmadnagar and Golconda.

- Ans
- ✗ 1. 1585
 - ✓ 2. 1565
 - ✗ 3. 1545
 - ✗ 4. 1525

Question ID : 630680939526
Option 1 ID : 6306803682530
Option 2 ID : 6306803682529
Option 3 ID : 6306803682528
Option 4 ID : 6306803682527

Q.20 Who among the following was the ruler of Delhi during the period 1210–1236?

- Ans
- ☐ 1. Ghiyasuddin Balban
 - ☐ 2. Qutbuddin Aybak
 - ☒ 3. Shamsuddin Iltutmish
 - ☐ 4. Jalaluddin Khalji

Question ID : 630680939325
Option 1 ID : 6306803681725
Option 2 ID : 6306803681723
Option 3 ID : 6306803681724
Option 4 ID : 6306803681726

Section : Arithmetical and Numerical Ability 1

Q.1 What is the digit in the units' place of the number 42^{42} ?

- Ans
- ☐ 1. 6
 - ☐ 2. 2
 - ☐ 3. 8
 - ☒ 4. 4

Question ID : 630680937583
Option 1 ID : 6306803674815
Option 2 ID : 6306803674813
Option 3 ID : 6306803674816
Option 4 ID : 6306803674814

Q.2 A, B and C start at the same time in the same direction to run around a circular stadium. A completes a round in 15 seconds, B in 30 seconds and C in 40 seconds, all starting from the same point. After what time will they again be at the starting point?

- Ans
- ☐ 1. 6 minutes
 - ☐ 2. 5 minutes
 - ☐ 3. 4 minutes
 - ☒ 4. 2 minutes

Question ID : 630680937667
Option 1 ID : 6306803675152
Option 2 ID : 6306803675149
Option 3 ID : 6306803675151
Option 4 ID : 6306803675150

Q.3 If $\frac{2}{B} + \frac{1}{B} + \frac{1}{B} = 96$, then what is the value of B?

- Ans
- ☒ 1. $\frac{1}{18}$
 - ☒ 2. $\frac{1}{20}$
 - ☒ 3. $\frac{1}{24}$
 - ☒ 4. $\frac{1}{22}$

Question ID : 630680937504
Option 1 ID : 6306803674500
Option 2 ID : 6306803674497
Option 3 ID : 6306803674499
Option 4 ID : 6306803674498

Q.4 Rahul's income is 240 percent of Rohan's income and Rahul's expenditure is 125 percent of Rohan's expenditure. If Rahul's income is 600 percent of Rohan's expenditure, then what is the respective ratio of Rahul's savings and Rohan's savings?

- Ans
- ☒ 1. 19 : 5
 - ☒ 2. 19 : 6
 - ☒ 3. 19 : 4
 - ☒ 4. 19 : 3

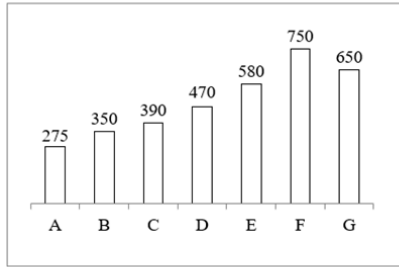
Question ID : 630680937511
Option 1 ID : 6306803674527
Option 2 ID : 6306803674526
Option 3 ID : 6306803674528
Option 4 ID : 6306803674525

Q.5 What is the value of $\frac{0.8 \times 0.8 - 0.8 \times 0.08}{0.048}$?

- Ans
- ☒ 1. 18
 - ☒ 2. 24
 - ☒ 3. 12
 - ☒ 4. 6

Question ID : 630680937505
Option 1 ID : 6306803674502
Option 2 ID : 6306803674501
Option 3 ID : 6306803674503
Option 4 ID : 6306803674504

Q.6 The bar graph given below shows the number of persons participating in a survey from 7 different states.



What is the ratio of number of persons participating in the survey from B and C to the number of persons participating in the survey from F and G?

- Ans**
- ✓ 1. 37 : 70
 - ✗ 2. 31 : 70
 - ✗ 3. 70 : 37
 - ✗ 4. 67 : 70

Question ID : 630680937740
Option 1 ID : 6306803675443
Option 2 ID : 6306803675442
Option 3 ID : 6306803675441
Option 4 ID : 6306803675444

Q.7 What is the value of $3\frac{1}{4} + 33\frac{1}{4} + 333\frac{1}{4} + 3333\frac{1}{4}$?

- Ans**
- ✗ 1. 3654
 - ✗ 2. 3702
 - ✓ 3. 3703
 - ✗ 4. 3700

Question ID : 630680937746
Option 1 ID : 6306803675468
Option 2 ID : 6306803675465
Option 3 ID : 6306803675467
Option 4 ID : 6306803675466

Q.8 The following table shows the number of scooters sold by two shops A and B for a period of six years.

Year	A	B
2017	702	408
2018	830	592
2019	210	108
2020	320	220
2021	470	415
2022	985	890

What is the average number of scooters sold by shop B in all given years? [Give your answer correct to two places of decimal.]

- Ans**
- ☒ 1. 440.55
 - ☒ 2. 438.83
 - ☒ 3. 435.55
 - ☒ 4. 437.27

Question ID : 630680937498
Option 1 ID : 6306803674476
Option 2 ID : 6306803674473
Option 3 ID : 6306803674474
Option 4 ID : 6306803674475

Q.9 A single discount of 30 percent is given on the marked price ₹ 1800 of an article. If two successive discounts of 20 percent and 20 percent are given, then what will be the difference between both the selling prices?

- Ans**
- ☒ 1. ₹ 128
 - ☒ 2. ₹ 108
 - ☒ 3. ₹ 132
 - ☒ 4. ₹ 145

Question ID : 630680937795
Option 1 ID : 6306803675662
Option 2 ID : 6306803675661
Option 3 ID : 6306803675663
Option 4 ID : 6306803675664

Q.10 A certain sum gives Rs. 3916 as the compound interest (compounding annually) at the rate of 20 percent per annum at the end of 2 years. What is that sum?

- Ans**
- ☒ 1. Rs. 8900
 - ☒ 2. Rs. 8700
 - ☒ 3. Rs. 8000
 - ☒ 4. Rs. 8850

Question ID : 630680937617
Option 1 ID : 6306803674950
Option 2 ID : 6306803674949
Option 3 ID : 6306803674951
Option 4 ID : 6306803674952

Q.11 If $1\frac{5}{30} + 4\frac{5}{6} + 3\frac{1}{5} = X\frac{Y}{5}$, then what are the values of X and Y respectively?

- Ans
- ✓ 1. 9, 1
 - ✗ 2. 12, 5
 - ✗ 3. 6, 9
 - ✗ 4. 9, 5

Question ID : 630680937624
Option 1 ID : 6306803674978
Option 2 ID : 6306803674979
Option 3 ID : 6306803674980
Option 4 ID : 6306803674977

Q.12 What is the average of the prime numbers between 52 and 76?

- Ans
- ✗ 1. 65
 - ✓ 2. 64
 - ✗ 3. 70
 - ✗ 4. 67

Question ID : 630680937572
Option 1 ID : 6306803674769
Option 2 ID : 6306803674770
Option 3 ID : 6306803674772
Option 4 ID : 6306803674771

Q.13 The table given below shows the price of two watches in five different shops.

Shops	Watches	
	P	Q
A	590	400
B	450	320
C	560	630
D	350	420
E	380	390

What is the average price of watch P in all the given shops?

- Ans
- ✗ 1. 480
 - ✗ 2. 472
 - ✗ 3. 450
 - ✓ 4. 466

Question ID : 630680937779
Option 1 ID : 6306803675600
Option 2 ID : 6306803675598
Option 3 ID : 6306803675597
Option 4 ID : 6306803675599

Q.14 The average of 50 observations was calculated as 27. Three observations 27, 54 and 80 were wrongly taken as 47, 52 and 80. What will be the correct average?

- Ans**
- ☒ 1. 26.69
 - ☒ 2. 26.64
 - ☒ 3. 27.72
 - ☒ 4. 29.98

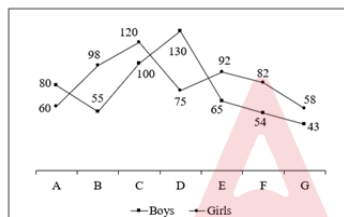
Question ID : 630680937693
Option 1 ID : 6306803675256
Option 2 ID : 6306803675255
Option 3 ID : 6306803675254
Option 4 ID : 6306803675253

Q.15 What is the average of the cubes of the first 28 natural numbers?

- Ans**
- ☒ 1. 4924
 - ☒ 2. 6417
 - ☒ 3. 5887
 - ☒ 4. 5213

Question ID : 630680937611
Option 1 ID : 6306803674928
Option 2 ID : 6306803674927
Option 3 ID : 6306803674926
Option 4 ID : 6306803674925

Q.16 The line chart given below shows the numbers of boys and girls in 7 different schools.



What is the absolute difference between the total number of boys and the total number of girls in these schools?

- Ans**
- ☒ 1. 53
 - ☒ 2. 55
 - ☒ 3. 58
 - ☒ 4. 60

Question ID : 630680937621
Option 1 ID : 6306803674967
Option 2 ID : 6306803674965
Option 3 ID : 6306803674968
Option 4 ID : 6306803674966

Q.17 The marked price of an article is 80 percent more than its cost price. If the article is sold for ₹ 400 after offering a discount of ₹ 50, then what will be the profit percentage?

- Ans**
- ✓ 1. 60 percent
 - ✗ 2. 40 percent
 - ✗ 3. 30 percent
 - ✗ 4. 80 percent

Question ID : 630680937754
Option 1 ID : 6306803675498
Option 2 ID : 6306803675499
Option 3 ID : 6306803675500
Option 4 ID : 6306803675497

Q.18 A person borrowed ₹ 13000 on compound interest at the rate of 20 percent per annum. If the interest is compounded half yearly, then what will be the amount to be paid after 1 year?

- Ans**
- ✗ 1. ₹ 15520
 - ✗ 2. ₹ 15450
 - ✓ 3. ₹ 15730
 - ✗ 4. ₹ 20740

Question ID : 630680937776
Option 1 ID : 6306803675586
Option 2 ID : 6306803675588
Option 3 ID : 6306803675585
Option 4 ID : 6306803675587

Q.19 What is the value of '10 percent of 175 + 11 percent of 125'?

- Ans**
- ✗ 1. 41.25
 - ✓ 2. 31.25
 - ✗ 3. 30.25
 - ✗ 4. 29.25

Question ID : 630680937629
Option 1 ID : 6306803675000
Option 2 ID : 6306803674997
Option 3 ID : 6306803674998
Option 4 ID : 6306803674999

Q.20 33 percent of 12 percent of a number is equal to 1980. What is 67 percent of that number?

- Ans** ☒ 1. 33500
☒ 2. 35500
☒ 3. 3350
☒ 4. 3550

Question ID : 630680937668
Option 1 ID : 6306803675156
Option 2 ID : 6306803675155
Option 3 ID : 6306803675153
Option 4 ID : 6306803675154

Section : Arithmetical and Numerical Ability 2

Q.1 The ratio of incomes of A and B is 5 : 8 respectively. Ratio of income of B and C is 3 : 5 respectively. If $\frac{3}{5}$ of A's income is ₹ 10000 less than the $\frac{1}{4}$ of C's income, then what is the B's income?

- Ans** ☒ 1. ₹ 40000
☒ 2. ₹ 240000
☒ 3. ₹ 20000
☒ 4. ₹ 150000

Question ID : 630680937758
Option 1 ID : 6306803675513
Option 2 ID : 6306803675515
Option 3 ID : 6306803675514
Option 4 ID : 6306803675516

Q.2 The salary of a worker is first increased by 40 percent and thereafter reduced by 35 percent. What is the net change in the salary?

- Ans** ☒ 1. 9 percent decrease
☒ 2. 8 percent decrease
☒ 3. 10 percent increase
☒ 4. 5 percent increase

Question ID : 630680937630
Option 1 ID : 6306803675003
Option 2 ID : 6306803675002
Option 3 ID : 6306803675004
Option 4 ID : 6306803675001

Q.3 P, Q and R received a total amount of Rs. 8400 and distributed it among themselves in the ratio of 7 : 6 : 8 respectively. If their savings were in the ratio of 3 : 5 : 6 respectively and Q saved 'Rs. 1000, then what is the ratio of the expenditures of P, Q and R respectively?

- Ans**
- ✗ 1. 11 : 7 : 9
- ✗ 2. 11 : 7 : 8
- ✓ 3. 11 : 7 : 10
- ✗ 4. 11 : 6 : 6

Question ID : 630680937639
Option 1 ID : 6306803675040
Option 2 ID : 6306803675039
Option 3 ID : 6306803675038
Option 4 ID : 6306803675037

Q.4 A person borrows Rs. 50000 at the rate of 6 percent per annum on simple interest for 5 years. He immediately lends it to another person at the rate of 6.25 percent per annum on simple interest for 5 years. How much money did he gain in the process?

- Ans**
- ✗ 1. Rs. 750
- ✗ 2. Rs. 500
- ✓ 3. Rs. 625
- ✗ 4. Rs. 720

Question ID : 630680937575
Option 1 ID : 6306803674781
Option 2 ID : 6306803674783
Option 3 ID : 6306803674782
Option 4 ID : 6306803674784

Q.5 Three circles of radius 2.8 cm each are placed in such a way that each circle touches the other two. What will be the area of the portion enclosed between these three circles? [Use $\pi = \frac{22}{7}$]

- Ans**
- ✗ 1. $(78.4\sqrt{3} - 12.32) \text{ cm}^2$
- ✗ 2. $(787\sqrt{3} - 1232) \text{ cm}^2$
- ✓ 3. $(7.84\sqrt{3} - 12.32) \text{ cm}^2$
- ✗ 4. $(7.84\sqrt{3} - 1.232) \text{ cm}^2$

Question ID : 630680937609
Option 1 ID : 6306803674918
Option 2 ID : 6306803674917
Option 3 ID : 6306803674920
Option 4 ID : 6306803674919

Q.6 A sum of Rs. 8000 becomes Rs. 20500 when invested at simple interest such that the annual rate of interest and the number of years for which the sum is invested are numerically equal. What is the annual rate of interest?

- Ans**
- ✓ 1. 12.5 percent
 - ✗ 2. 130 percent
 - ✗ 3. 14.5 percent
 - ✗ 4. 115 percent

Question ID : 630680937495
Option 1 ID : 6306803674463
Option 2 ID : 6306803674464
Option 3 ID : 6306803674461
Option 4 ID : 6306803674462

Q.7 The radius of a sphere is 4.9 cm. What is the total surface area of the sphere?

- Ans**
- ✗ 1. 272.80 cm²
 - ✗ 2. 316.96 cm²
 - ✗ 3. 284.72 cm²
 - ✓ 4. 301.84 cm²

Question ID : 630680937805
Option 1 ID : 6306803675704
Option 2 ID : 6306803675703
Option 3 ID : 6306803675702
Option 4 ID : 6306803675701

Q.8 Two pipes R1 and R2 can fill an empty tank in 9 hours and 12 hours respectively. Pipe R3 can empty that completely filled tank in 24 hours. Firstly both pipes R1 and R2 are opened and after 2 hour pipe R3 is also opened. In how much time tank will be completely filled?

- Ans**
- ✓ 1. 6 hours
 - ✗ 2. 7 hours
 - ✗ 3. 6.5 hours
 - ✗ 4. 8 hours

Question ID : 630680937800
Option 1 ID : 6306803675682
Option 2 ID : 6306803675681
Option 3 ID : 6306803675684
Option 4 ID : 6306803675683

Q.9 Ram covers two equal distances at the speed of 40 km/hr and 60 km/hr respectively. What is the average speed of Ram?

- Ans**
- ☒ 1. 50 km/hr
 - ☒ 2. 48 km/hr
 - ☒ 3. 52 km/hr
 - ☒ 4. 55 km/hr

Question ID : 630680937763
Option 1 ID : 6306803675534
Option 2 ID : 6306803675533
Option 3 ID : 6306803675535
Option 4 ID : 6306803675536

Q.10 A truck left 1 hour earlier than the scheduled time and in order to reach its destination 760 km away on time, it had to decrease its usual speed by 2 km/hr. What is the usual speed of the truck?

- Ans**
- ☒ 1. 40 km/hr
 - ☒ 2. 35 km/hr
 - ☒ 3. 45 km/hr
 - ☒ 4. 30 km/hr

Question ID : 630680937642
Option 1 ID : 6306803675052
Option 2 ID : 6306803675049
Option 3 ID : 6306803675051
Option 4 ID : 6306803675050

Q.11 A, B and C can complete a work in 10 days, 12 days and 15 days respectively. They received ₹ 2100 to complete the work. They began the work together but B left the work 2 day before the completion of the work and C left the work 5 days before the completion of the work. A has completed the remaining work alone. What is the share of A from total the money?

- Ans**
- ☒ 1. ₹ 630
 - ☒ 2. ₹ 1260
 - ☒ 3. ₹ 315
 - ☒ 4. ₹ 210

Question ID : 630680937761
Option 1 ID : 6306803675525
Option 2 ID : 6306803675526
Option 3 ID : 6306803675528
Option 4 ID : 6306803675527

Q.12 If the radius of a sphere is equal to the radius of a hemisphere, then what will be the respective ratio of the volumes of the sphere and the hemisphere?

- Ans
- ✓ 1. 2 : 1
 - ✗ 2. 1 : 1
 - ✗ 3. 3 : 1
 - ✗ 4. 6 : 1

Question ID : 630680937567
Option 1 ID : 6306803674751
Option 2 ID : 6306803674749
Option 3 ID : 6306803674750
Option 4 ID : 6306803674752

Q.13 Each of the length, the breadth, and the height of a cuboid is decreased by 8 percent. What is the percentage decrease in the total surface area of the cuboid?

- Ans
- ✗ 1. 14.28 percent
 - ✓ 2. 15.36 percent
 - ✗ 3. 17.14 percent
 - ✗ 4. 12.56 percent

Question ID : 630680937527
Option 1 ID : 6306803674589
Option 2 ID : 6306803674590
Option 3 ID : 6306803674591
Option 4 ID : 6306803674592

Q.14 If $(7a + 2b) : (7a - 2b) = 7 : 2$, then what is the value of $a : b$?

- Ans
- ✗ 1. 20 : 21
 - ✓ 2. 18 : 35
 - ✗ 3. 4 : 7
 - ✗ 4. 15 : 14

Question ID : 630680937557
Option 1 ID : 6306803674709
Option 2 ID : 6306803674710
Option 3 ID : 6306803674712
Option 4 ID : 6306803674711

Q.15 If $\frac{p}{q} = \frac{r}{s} = \frac{t}{u} = \frac{5}{7}$, then what is the value of $(3p + 4r + 7t) : (3q + 4s + 7u)$?

- Ans
- ☒ 1. 7 : 5
 - ☒ 2. 6 : 1
 - ☒ 3. 5 : 3
 - ☒ 4. 5 : 7

Question ID : 630680937596
Option 1 ID : 6306803674865
Option 2 ID : 6306803674868
Option 3 ID : 6306803674867
Option 4 ID : 6306803674866

Q.16 Two cubes each of edge 16 cm are joined to form a single cuboid. What is the total surface area of the cuboid formed?

- Ans
- ☒ 1. 2560 cm²
 - ☒ 2. 2340 cm²
 - ☒ 3. 2780 cm²
 - ☒ 4. 2920 cm²

Question ID : 630680937769
Option 1 ID : 6306803675559
Option 2 ID : 6306803675558
Option 3 ID : 6306803675560
Option 4 ID : 6306803675557

Q.17 Mohit rows to a place situated 66 km away and comes back in 11 hours 15 minutes. The time Mohit takes to row 22 km downstream is the same as the time he takes to row 8 km upstream. What is the speed of the stream?

- Ans
- ☒ 1. 8 km/hr
 - ☒ 2. 11 km/hr
 - ☒ 3. 9 km/hr
 - ☒ 4. 7 km/hr

Question ID : 630680937524
Option 1 ID : 6306803674580
Option 2 ID : 6306803674579
Option 3 ID : 6306803674578
Option 4 ID : 6306803674577

Q.18 Two cubes, each of edge 8 cm, are joined to form a single cuboid. What is the volume of the cuboid formed?

- Ans
- ☒ 1. 1496 cm³
 - ☒ 2. 864 cm³
 - ☒ 3. 1024 cm³
 - ☒ 4. 1278 cm³

Question ID : 630680937528
Option 1 ID : 6306803674593
Option 2 ID : 6306803674594
Option 3 ID : 6306803674596
Option 4 ID : 6306803674595

Q.19 The ratio of selling price to the cost price is 15 : 18. What is the loss percentage?

- Ans
- ☒ 1. 33.33 percent
 - ☒ 2. 16.67 percent
 - ☒ 3. 25 percent
 - ☒ 4. 20 percent

Question ID : 630680937792
Option 1 ID : 6306803675649
Option 2 ID : 6306803675650
Option 3 ID : 6306803675652
Option 4 ID : 6306803675651

Q.20 The difference between the cost price and the selling price of an article is Rs. 328. If the loss percentage is 40 percent, then what is the selling price?

- Ans
- ☒ 1. Rs. 416
 - ☒ 2. Rs. 492
 - ☒ 3. Rs. 396
 - ☒ 4. Rs. 456

Question ID : 630680937633
Option 1 ID : 6306803675015
Option 2 ID : 6306803675014
Option 3 ID : 6306803675016
Option 4 ID : 6306803675013

Q.1 Fill in the blank with the appropriate article.

She has _____ headache. She needs to rest for a while.

Ans ☒ 1. no article

☒ 2. a

☒ 3. an

☒ 4. the

Question ID : 630680938558

Option 1 ID : 6306803678638

Option 2 ID : 6306803678635

Option 3 ID : 6306803678636

Option 4 ID : 6306803678637

Q.2 Choose the correct one-word substitution for the sentence/phrase given below:

the record of descent of an animal

Ans ☒ 1. dynasty

☒ 2. heritage

☒ 3. origin

☒ 4. pedigree

Question ID : 630680938613

Option 1 ID : 6306803678845

Option 2 ID : 6306803678844

Option 3 ID : 6306803678846

Option 4 ID : 6306803678843

Q.3 Fill in the blank with the correct preposition:

She cut the cake _____ a knife.

Ans ☒ 1. from

☒ 2. with

☒ 3. on

☒ 4. by

Question ID : 630680938351

Option 1 ID : 6306803677870

Option 2 ID : 6306803677867

Option 3 ID : 6306803677869

Option 4 ID : 6306803677868

Q.4 Fill in the blank with the appropriate article:

He lives in _____ United States of America.

- Ans
- ✓ 1. the
 - ✗ 2. a
 - ✗ 3. no article
 - ✗ 4. an

Question ID : 630680938428
Option 1 ID : 6306803678153
Option 2 ID : 6306803678151
Option 3 ID : 6306803678154
Option 4 ID : 6306803678152

Q.5 Fill in the blank with the correct part of speech:

The house was _____ damaged by the fire

- Ans
- ✗ 1. extensiveness
 - ✓ 2. extensively
 - ✗ 3. extent
 - ✗ 4. extensive

Question ID : 630680938603
Option 1 ID : 6306803678805
Option 2 ID : 6306803678806
Option 3 ID : 6306803678804
Option 4 ID : 6306803678803

Q.6 Choose the most appropriate meaning of the idiom given below:

Add insult to injury

- Ans
- ✗ 1. Wish good luck
 - ✗ 2. Very calm and composed
 - ✗ 3. Focus closely on
 - ✓ 4. To make a bad situation worse

Question ID : 630680938488
Option 1 ID : 6306803678381
Option 2 ID : 6306803678382
Option 3 ID : 6306803678380
Option 4 ID : 6306803678379

Q.7 Fill in the blank with the appropriate article:

He is _____engineer. He works for Google.

- Ans
- ☒ 1. a
 - ☒ 2. no article
 - ☒ 3. the
 - ☒ 4. an

Question ID : 630680938520
Option 1 ID : 6306803678495
Option 2 ID : 6306803678498
Option 3 ID : 6306803678497
Option 4 ID : 6306803678496

Q.8 Choose the option which is antonym of (opposite of) the word 'sanguine' in the sentence given below

He was sanguine about his chances of winning the election, despite the polls showing otherwise.

- Ans
- ☒ 1. optimistic
 - ☒ 2. anxious
 - ☒ 3. pessimistic
 - ☒ 4. hopeful

Question ID : 630680938620
Option 1 ID : 6306803678872
Option 2 ID : 6306803678874
Option 3 ID : 6306803678871
Option 4 ID : 6306803678873

Q.9 Fill in the blank with an appropriate adjective:

They left _____ car in the parking lot and forgot about it.

- Ans
- ☒ 1. your
 - ☒ 2. their
 - ☒ 3. his
 - ☒ 4. its

Question ID : 630680938478
Option 1 ID : 6306803678340
Option 2 ID : 6306803678341
Option 3 ID : 6306803678339
Option 4 ID : 6306803678342

Q.10 Fill in the blank with a quantitative adjective:

There are _____ books in a library. It is a library after all.

- Ans
- ☒ 1. much
 - ☒ 2. them
 - ☒ 3. few
 - ☒ 4. many

Question ID : 630680938516
Option 1 ID : 6306803678480
Option 2 ID : 6306803678481
Option 3 ID : 6306803678482
Option 4 ID : 6306803678479

Q.11 Fill in the blank with the correct option :

She _____ smiled at me when I entered the room.

- Ans
- ☒ 1. nerves
 - ☒ 2. nervously
 - ☒ 3. nerve
 - ☒ 4. nervous

Question ID : 630680938436
Option 1 ID : 6306803678186
Option 2 ID : 6306803678183
Option 3 ID : 6306803678185
Option 4 ID : 6306803678184

Q.12 Rearrange the following sentences to form a coherent paragraph and choose the correct sequence from the options given below:

- A. Dogs are in fact known for their loyalty, intelligence, and friendliness, which make them popular among humans.
- B. They are often used as pets, therapy animals, and companions for people with disabilities.
- C. Dogs are domesticated animals that belong to the canine family, along with wolves, foxes, and coyotes.
- D. These pets often require a lot of care, training, and attention, which may not suit everyone's lifestyle.

- Ans
- ☒ 1. CABD
 - ☒ 2. DACB
 - ☒ 3. ACBD
 - ☒ 4. CBDA

Question ID : 630680938611
Option 1 ID : 6306803678835
Option 2 ID : 6306803678836
Option 3 ID : 6306803678838
Option 4 ID : 6306803678837

Q.13 Select the word segment that substitutes (replaces) the bracketed idiom correctly and completes the sentence meaningfully.

He just tends (to put his foot in his mouth) when he is forced to speak for too long,

- Ans
- ☒ 1. to brag about himself
 - ☒ 2. to stammer
 - ☒ 3. to say something embarrassing
 - ☒ 4. to become nervous

Question ID : 630680938572
Option 1 ID : 6306803678694
Option 2 ID : 6306803678691
Option 3 ID : 6306803678692
Option 4 ID : 6306803678693

Q.14 Fill in the blank with a demonstrative adjective:

_____ scarf is mine.

- Ans
- ☒ 1. Your
 - ☒ 2. Any
 - ☒ 3. Some
 - ☒ 4. This

Question ID : 630680938430
Option 1 ID : 6306803678160
Option 2 ID : 6306803678162
Option 3 ID : 6306803678161
Option 4 ID : 6306803678159

Q.15 Choose the option which is synonym of the word "dismal" in the sentence given below:

The weather was dismal and gloomy.

- Ans
- ☒ 1. crude
 - ☒ 2. dreary
 - ☒ 3. sunny
 - ☒ 4. cheerful

Question ID : 630680938361
Option 1 ID : 6306803677908
Option 2 ID : 6306803677909
Option 3 ID : 6306803677910
Option 4 ID : 6306803677907

Q.16 Select the word segment that substitutes (replaces) the bracketed idiom correctly and completes the sentence meaningfully.

She (rained on his parade) by telling him the bad news.

- Ans
- ☐ 1. joined his celebration
 - ☒ 2. spoiled his plans
 - ☐ 3. showered him with praise
 - ☐ 4. gave him an umbrella

Question ID : 630680938614
Option 1 ID : 6306803678849
Option 2 ID : 6306803678847
Option 3 ID : 6306803678848
Option 4 ID : 6306803678850

Q.17 Choose the correct one-word substitution for the sentence/phrase given below:

a small shelter for a dog

- Ans
- ☐ 1. sty
 - ☒ 2. kennel
 - ☐ 3. den
 - ☐ 4. stable

Question ID : 630680938569
Option 1 ID : 6306803678682
Option 2 ID : 6306803678679
Option 3 ID : 6306803678680
Option 4 ID : 6306803678681

Q.18 Fill in the blank with the correct article:

I saw _____ play yesterday and it was very good, just like Harish said.

- Ans
- ☐ 1. a
 - ☐ 2. no article
 - ☒ 3. the
 - ☐ 4. an

Question ID : 630680938385
Option 1 ID : 6306803677991
Option 2 ID : 6306803677994
Option 3 ID : 6306803677993
Option 4 ID : 6306803677992

Q.19 Choose the antonym for "quell"

- Ans

1. Subdue

2. Incite

3. Suppress

4. Pacify

Question ID : 630680938489
 Option 1 ID : 6306803678385
 Option 2 ID : 6306803678384
 Option 3 ID : 6306803678383
 Option 4 ID : 6306803678386

Q.20 Rearrange the following sentences to form a coherent paragraph and choose the correct sequence from the options given below:

- A. The UN also promotes human rights, democracy, social justice, and international cooperation, and provides humanitarian assistance to people in need, such as refugees, victims of natural disasters, and peacekeepers.
 B. The United Nations (UN) is an international organization that was founded in 1945 after the Second World War, with the aim of maintaining international peace and security, and preventing another global conflict.
 C. The UN has 193 member states and 2 observer states, and operates through six principal organs, such as the General Assembly, the Security Council, the Secretariat, and the International Court of Justice.
 D. However, the UN faces many challenges and criticisms, such as its lack of representation, its ineffectiveness in resolving some conflicts, its bureaucracy, and its dependence on the contributions of its member states.

- Ans

1. DBCA

2. CBAD

3. BCAD

4. ABCD

Question ID : 630680938353
 Option 1 ID : 6306803677878
 Option 2 ID : 6306803677877
 Option 3 ID : 6306803677876
 Option 4 ID : 6306803677875

Section : Test of English Language and Comprehension 2

Q.1 Choose the option which is antonym of (opposite of) the word erudite in the sentence given below

She was an erudite scholar who had published many books and articles on her field of study.

- Ans

1. learned

2. knowledgeable

3. careless

4. ignorant

Question ID : 630680938618
 Option 1 ID : 6306803678864
 Option 2 ID : 6306803678865
 Option 3 ID : 6306803678866
 Option 4 ID : 6306803678863

Q.2 The sentence given below is divided in to three segment. Choose the segment which has a spelling error. If there are no errors, choose No error option.

She was fascinated by/ the beauty and diversity/ of the coral reef.

- Ans
- ☒ 1. of the coral reef.
 - ☒ 2. No error
 - ☒ 3. She was fasinated by
 - ☒ 4. the beauty and diversity

Question ID : 630680938366
Option 1 ID : 6306803677929
Option 2 ID : 6306803677930
Option 3 ID : 6306803677927
Option 4 ID : 6306803677928

Q.3 Choose the most appropriate meaning of the idiom given below:

See eye to eye

- Ans
- ☒ 1. Agree or have the same opinion as someone else
 - ☒ 2. The feeling of success or accomplishment
 - ☒ 3. Happening consistently or repeatedly every year
 - ☒ 4. Changes and new experiences make life more enjoyable

Question ID : 630680938358
Option 1 ID : 6306803677895
Option 2 ID : 6306803677896
Option 3 ID : 6306803677898
Option 4 ID : 6306803677897

Q.4 Identify the homonym for "pair"

- Ans
- ☒ 1. Pear
 - ☒ 2. Payer
 - ☒ 3. Paier
 - ☒ 4. peer

Question ID : 630680938537
Option 1 ID : 6306803678563
Option 2 ID : 6306803678565
Option 3 ID : 6306803678566
Option 4 ID : 6306803678564

Q.5 Choose the option which is antonym of the word 'meticulous' in the sentence given below:

She was a meticulous researcher who checked every fact and source.

Ans ☒ 1. unscrupulous

☐ 2. thorough

☐ 3. diligent

☐ 4. accurate

Question ID : 630680938317
Option 1 ID : 6306803677743
Option 2 ID : 6306803677744
Option 3 ID : 6306803677746
Option 4 ID : 6306803677745

Comprehension:

A passage is given with 5 blanks in it. Read the passage carefully and choose the best answer to each question out of the four alternatives:

In recent years, there has been a growing movement advocating for a ban on leather products, driven by concerns over (1) _____ practices in the industry. The production of leather involves harsh chemicals and environmentally harmful processes, contributing to pollution and deforestation.

The call for a ban stems from a desire to address the ethical implications associated with the (2) _____ treatment of animals. Animal rights activists argue that the leather industry is inherently linked to inhumane practices, prompting a shift towards alternative, cruelty-free materials.

Advocates of the ban believe that such a measure will not only combat environmental degradation but also encourage the fashion industry to explore (3) _____ materials.

These materials are often sustainable, less resource-intensive, and do not involve harm to animals, aligning with a broader commitment to ethical and eco-friendly practices.

The (4) _____ of leather alternatives has gained momentum, with consumers increasingly opting for products that align with their values. While a ban on leather products may face challenges in implementation, it represents a significant step towards a more sustainable and (5) _____ future.

SubQuestion No : 6

Q.6 Select the most appropriate option to fill in blank number (1).

Ans ☐ 1. Profitable

☒ 2. Unethical

☐ 3. Limited

☐ 4. Treacherous

Question ID : 630680938411
Option 1 ID : 6306803678092
Option 2 ID : 6306803678091
Option 3 ID : 6306803678094
Option 4 ID : 6306803678093

Comprehension:

A passage is given with 5 blanks in it. Read the passage carefully and choose the best answer to each question out of the four alternatives:

In recent years, there has been a growing movement advocating for a ban on leather products, driven by concerns over (1) _____ practices in the industry. The production of leather involves harsh chemicals and environmentally harmful processes, contributing to pollution and deforestation.

The call for a ban stems from a desire to address the ethical implications associated with the (2) _____ treatment of animals. Animal rights activists argue that the leather industry is inherently linked to inhumane practices, prompting a shift towards alternative, cruelty-free materials.

Advocates of the ban believe that such a measure will not only combat environmental degradation but also encourage the fashion industry to explore (3) _____ materials. These materials are often sustainable, less resource-intensive, and do not involve harm to animals, aligning with a broader commitment to ethical and eco-friendly practices.

The (4) _____ of leather alternatives has gained momentum, with consumers increasingly opting for products that align with their values. While a ban on leather products may face challenges in implementation, it represents a significant step towards a more sustainable and (5) _____ future.

SubQuestion No : 7

Q.7 Select the most appropriate option to fill in blank number (2).

- Ans
- ☒ 1. Conventional
 - ☒ 2. Indifferent
 - ☒ 3. Inhumane
 - ☒ 4. Unpopular

Question ID : 630680938412
Option 1 ID : 6306803678097
Option 2 ID : 6306803678096
Option 3 ID : 6306803678095
Option 4 ID : 6306803678098

Comprehension:

A passage is given with 5 blanks in it. Read the passage carefully and choose the best answer to each question out of the four alternatives:

In recent years, there has been a growing movement advocating for a ban on leather products, driven by concerns over (1) _____ practices in the industry. The production of leather involves harsh chemicals and environmentally harmful processes, contributing to pollution and deforestation.

The call for a ban stems from a desire to address the ethical implications associated with the (2) _____ treatment of animals. Animal rights activists argue that the leather industry is inherently linked to inhumane practices, prompting a shift towards alternative, cruelty-free materials.

Advocates of the ban believe that such a measure will not only combat environmental degradation but also encourage the fashion industry to explore (3) _____ materials. These materials are often sustainable, less resource-intensive, and do not involve harm to animals, aligning with a broader commitment to ethical and eco-friendly practices.

The (4) _____ of leather alternatives has gained momentum, with consumers increasingly opting for products that align with their values. While a ban on leather products may face challenges in implementation, it represents a significant step towards a more sustainable and (5) _____ future.

SubQuestion No : 8

Q.8 Select the most appropriate option to fill in blank number (3).

- Ans ☒ 1. Exorbitant
☒ 2. Synthetic
☒ 3. Conventional
☒ 4. Unpopular

Question ID : 630680938413
Option 1 ID : 6306803678100
Option 2 ID : 6306803678099
Option 3 ID : 6306803678101
Option 4 ID : 6306803678102

Comprehension:

A passage is given with 5 blanks in it. Read the passage carefully and choose the best answer to each question out of the four alternatives:

In recent years, there has been a growing movement advocating for a ban on leather products, driven by concerns over (1) _____ practices in the industry. The production of leather involves harsh chemicals and environmentally harmful processes, contributing to pollution and deforestation.

The call for a ban stems from a desire to address the ethical implications associated with the (2) _____ treatment of animals. Animal rights activists argue that the leather industry is inherently linked to inhumane practices, prompting a shift towards alternative, cruelty-free materials.

Advocates of the ban believe that such a measure will not only combat environmental degradation but also encourage the fashion industry to explore (3) _____ materials. These materials are often sustainable, less resource-intensive, and do not involve harm to animals, aligning with a broader commitment to ethical and eco-friendly practices.

The (4) _____ of leather alternatives has gained momentum, with consumers increasingly opting for products that align with their values. While a ban on leather products may face challenges in implementation, it represents a significant step towards a more sustainable and (5) _____ future.

SubQuestion No : 9

Q.9 Select the most appropriate option to fill in blank number (4).

- Ans
- ☒ 1. Development
 - ☒ 2. Rejection
 - ☒ 3. Accreditation
 - ☒ 4. Popularity

Question ID : 630680938414
Option 1 ID : 6306803678106
Option 2 ID : 6306803678104
Option 3 ID : 6306803678103
Option 4 ID : 6306803678105

Comprehension:

A passage is given with 5 blanks in it. Read the passage carefully and choose the best answer to each question out of the four alternatives:

In recent years, there has been a growing movement advocating for a ban on leather products, driven by concerns over (1) _____ practices in the industry. The production of leather involves harsh chemicals and environmentally harmful processes, contributing to pollution and deforestation.

The call for a ban stems from a desire to address the ethical implications associated with the (2) _____ treatment of animals. Animal rights activists argue that the leather industry is inherently linked to inhumane practices, prompting a shift towards alternative, cruelty-free materials.

Advocates of the ban believe that such a measure will not only combat environmental degradation but also encourage the fashion industry to explore (3) _____ materials. These materials are often sustainable, less resource-intensive, and do not involve harm to animals, aligning with a broader commitment to ethical and eco-friendly practices.

The (4) _____ of leather alternatives has gained momentum, with consumers increasingly opting for products that align with their values. While a ban on leather products may face challenges in implementation, it represents a significant step towards a more sustainable and (5) _____ future.

SubQuestion No : 10

Q.10 Select the most appropriate option to fill in blank number (5).

- Ans
- ☒ 1. Extravagant
 - ☒ 2. Indifferent
 - ☒ 3. Conscious
 - ☒ 4. Frivolous

Question ID : 630680938415
Option 1 ID : 6306803678109
Option 2 ID : 6306803678110
Option 3 ID : 6306803678108
Option 4 ID : 6306803678107

Comprehension:

A passage is given with 5 questions following it. Read the passage carefully and choose the best answer to each question out of the four alternatives:

The dot-com bubble of the late 1990s was a defining moment in the history of technology and finance. Fuelled by unprecedented optimism and speculative frenzy, the stock prices of numerous internet-based companies soared to staggering heights. Investors were captivated by the promise of the digital age, overlooking traditional metrics and valuations. Companies with little or no profits were valued in the billions, and the exuberance reached its peak in the year 2000. However, the bubble eventually burst, leading to a catastrophic market crash. High-flying tech stocks plummeted, and many once-celebrated startups faced bankruptcy. The aftermath of the dot-com bubble served as a cautionary tale, prompting a revaluation of investment strategies and the importance of fundamental business principles. Despite the financial fallout, the period also laid the groundwork for the subsequent rise of resilient and sustainable internet-based businesses. The dot-com bubble remains a vivid reminder of the risks associated with speculative investment and the enduring need for prudence in the ever-evolving landscape of technology and finance.

SubQuestion No : 11

Q.11 Which of the following can be inferred from the passage?

- Ans ☒ 1. The dot-com bubble had no lasting impact on the technology and finance industries
- ☒ 2. Investors consistently considered traditional metrics and valuations during the dot-com era
- ☒ 3. The dot-com bubble solely contributed to the rise of internet-based businesses
- ☒ 4. Resilient and sustainable internet-based businesses emerged after the dot-com bubble

Question ID : 630680938468
Option 1 ID : 6306803678299
Option 2 ID : 6306803678301
Option 3 ID : 6306803678302
Option 4 ID : 6306803678300

Comprehension:

A passage is given with 5 questions following it. Read the passage carefully and choose the best answer to each question out of the four alternatives:

The dot-com bubble of the late 1990s was a defining moment in the history of technology and finance. Fuelled by unprecedented optimism and speculative frenzy, the stock prices of numerous internet-based companies soared to staggering heights. Investors were captivated by the promise of the digital age, overlooking traditional metrics and valuations. Companies with little or no profits were valued in the billions, and the exuberance reached its peak in the year 2000. However, the bubble eventually burst, leading to a catastrophic market crash. High-flying tech stocks plummeted, and many once-celebrated startups faced bankruptcy. The aftermath of the dot-com bubble served as a cautionary tale, prompting a revaluation of investment strategies and the importance of fundamental business principles. Despite the financial fallout, the period also laid the groundwork for the subsequent rise of resilient and sustainable internet-based businesses. The dot-com bubble remains a vivid reminder of the risks associated with speculative investment and the enduring need for prudence in the ever-evolving landscape of technology and finance.

SubQuestion No : 12

Q.12 How is the passage structured?

- Ans ☒ 1. Compare and Contrast
- ☒ 2. Chronological
- ☒ 3. Problem and Solution
- ☒ 4. Cause and Effect

Question ID : 630680938470
Option 1 ID : 6306803678309
Option 2 ID : 6306803678307
Option 3 ID : 6306803678310
Option 4 ID : 6306803678308

Comprehension:

A passage is given with 5 questions following it. Read the passage carefully and choose the best answer to each question out of the four alternatives:

The dot-com bubble of the late 1990s was a defining moment in the history of technology and finance. Fuelled by unprecedented optimism and speculative frenzy, the stock prices of numerous internet-based companies soared to staggering heights. Investors were captivated by the promise of the digital age, overlooking traditional metrics and valuations. Companies with little or no profits were valued in the billions, and the exuberance reached its peak in the year 2000. However, the bubble eventually burst, leading to a catastrophic market crash. High-flying tech stocks plummeted, and many once-celebrated startups faced bankruptcy. The aftermath of the dot-com bubble served as a cautionary tale, prompting a revaluation of investment strategies and the importance of fundamental business principles. Despite the financial fallout, the period also laid the groundwork for the subsequent rise of resilient and sustainable internet-based businesses. The dot-com bubble remains a vivid reminder of the risks associated with speculative investment and the enduring need for prudence in the ever-evolving landscape of technology and finance.

SubQuestion No : 13

Q.13 What is the antonym of the word "resilient" as used in the passage?

- Ans
- ☒ 1. Exuberant
 - ☒ 2. Speculative
 - ☒ 3. Fragile
 - ☒ 4. Prosperous

Question ID : 630680938469
Option 1 ID : 6306803678306
Option 2 ID : 6306803678305
Option 3 ID : 6306803678303
Option 4 ID : 6306803678304

Comprehension:

A passage is given with 5 questions following it. Read the passage carefully and choose the best answer to each question out of the four alternatives:

The dot-com bubble of the late 1990s was a defining moment in the history of technology and finance. Fuelled by unprecedented optimism and speculative frenzy, the stock prices of numerous internet-based companies soared to staggering heights. Investors were captivated by the promise of the digital age, overlooking traditional metrics and valuations. Companies with little or no profits were valued in the billions, and the exuberance reached its peak in the year 2000. However, the bubble eventually burst, leading to a catastrophic market crash. High-flying tech stocks plummeted, and many once-celebrated startups faced bankruptcy. The aftermath of the dot-com bubble served as a cautionary tale, prompting a revaluation of investment strategies and the importance of fundamental business principles. Despite the financial fallout, the period also laid the groundwork for the subsequent rise of resilient and sustainable internet-based businesses. The dot-com bubble remains a vivid reminder of the risks associated with speculative investment and the enduring need for prudence in the ever-evolving landscape of technology and finance.

SubQuestion No : 14

Q.14 What is the central theme of the passage?

- Ans
- ☒ 1. The Role of Digital Age in Finance
 - ☒ 2. The Success of Internet-based Businesses
 - ☒ 3. The Importance of Traditional Metrics
 - ☒ 4. The Risks of Speculative Investment

Question ID : 630680938467
Option 1 ID : 6306803678298
Option 2 ID : 6306803678295
Option 3 ID : 6306803678297
Option 4 ID : 6306803678296

Comprehension:

A passage is given with 5 questions following it. Read the passage carefully and choose the best answer to each question out of the four alternatives:

The dot-com bubble of the late 1990s was a defining moment in the history of technology and finance. Fuelled by unprecedented optimism and speculative frenzy, the stock prices of numerous internet-based companies soared to staggering heights. Investors were captivated by the promise of the digital age, overlooking traditional metrics and valuations. Companies with little or no profits were valued in the billions, and the exuberance reached its peak in the year 2000. However, the bubble eventually burst, leading to a catastrophic market crash. High-flying tech stocks plummeted, and many once-celebrated startups faced bankruptcy. The aftermath of the dot-com bubble served as a cautionary tale, prompting a revaluation of investment strategies and the importance of fundamental business principles. Despite the financial fallout, the period also laid the groundwork for the subsequent rise of resilient and sustainable internet-based businesses. The dot-com bubble remains a vivid reminder of the risks associated with speculative investment and the enduring need for prudence in the ever-evolving landscape of technology and finance.

SubQuestion No : 15

Q.15 What is the tone of the passage?

- Ans ☒ 1. Informative
☒ 2. Optimistic
☒ 3. Cautious
☒ 4. Pessimistic

Question ID : 630680938466
 Option 1 ID : 6306803678294
 Option 2 ID : 6306803678291
 Option 3 ID : 6306803678292
 Option 4 ID : 6306803678293

Comprehension:

A passage is given with 5 questions following it. Read the passage carefully and choose the best answer to each question out of the four alternatives:

Over the past decade, several organizations have emerged as industry leaders, reshaping the global business landscape. Tech giants like Apple, Amazon, and Google have ascended to unprecedented heights. Apple's innovative products and seamless user experience propelled it to become the world's most valuable company. Amazon, with its relentless focus on customer convenience and diverse offerings, transformed into an e-commerce behemoth. Google's dominance in search and online services solidified its position as a digital powerhouse. Beyond technology, companies like Tesla revolutionized the automotive industry with electric vehicles and sustainable energy solutions. Additionally, Chinese conglomerates like Alibaba and Tencent expanded their influence globally, capitalizing on the booming Asian market. These organizations share a common thread of disruptive innovation, strategic vision, and adaptability to market trends. Their rise to the top reflects an era defined by technological advancements, globalization, and a dynamic business environment. As these giants continue to evolve, their impact on industries and societies remains profound, shaping the trajectory of the business landscape in the years to come.

SubQuestion No : 16

Q.16 What is the central theme of the passage?

- Ans ☒ 1. The future of the globalization with rapid evolution in technology.
☒ 2. The challenges faced by industrialists
☒ 3. The success of industry leaders
☒ 4. The role of sound management in business

Question ID : 630680938418
 Option 1 ID : 6306803678118
 Option 2 ID : 6306803678116
 Option 3 ID : 6306803678117
 Option 4 ID : 6306803678115

Comprehension:

A passage is given with 5 questions following it. Read the passage carefully and choose the best answer to each question out of the four alternatives:

Over the past decade, several organizations have emerged as industry leaders, reshaping the global business landscape. Tech giants like Apple, Amazon, and Google have ascended to unprecedented heights. Apple's innovative products and seamless user experience propelled it to become the world's most valuable company. Amazon, with its relentless focus on customer convenience and diverse offerings, transformed into an e-commerce behemoth. Google's dominance in search and online services solidified its position as a digital powerhouse.

Beyond technology, companies like Tesla revolutionized the automotive industry with electric vehicles and sustainable energy solutions. Additionally, Chinese conglomerates like Alibaba and Tencent expanded their influence globally, capitalizing on the booming Asian market. These organizations share a common thread of disruptive innovation, strategic vision, and adaptability to market trends. Their rise to the top reflects an era defined by technological advancements, globalization, and a dynamic business environment. As these giants continue to evolve, their impact on industries and societies remains profound, shaping the trajectory of the business landscape in the years to come.

SubQuestion No : 17

Q.17 What is the antonym of the word "booming" as used in the passage?

- Ans
- ☒ 1. Stable
 - ☒ 2. Diversified
 - ☒ 3. Emerging
 - ☒ 4. Declining

Question ID : 630680938420
Option 1 ID : 6306803678125
Option 2 ID : 6306803678126
Option 3 ID : 6306803678124
Option 4 ID : 6306803678123

Comprehension:

A passage is given with 5 questions following it. Read the passage carefully and choose the best answer to each question out of the four alternatives:

Over the past decade, several organizations have emerged as industry leaders, reshaping the global business landscape. Tech giants like Apple, Amazon, and Google have ascended to unprecedented heights. Apple's innovative products and seamless user experience propelled it to become the world's most valuable company. Amazon, with its relentless focus on customer convenience and diverse offerings, transformed into an e-commerce behemoth. Google's dominance in search and online services solidified its position as a digital powerhouse.

Beyond technology, companies like Tesla revolutionized the automotive industry with electric vehicles and sustainable energy solutions. Additionally, Chinese conglomerates like Alibaba and Tencent expanded their influence globally, capitalizing on the booming Asian market. These organizations share a common thread of disruptive innovation, strategic vision, and adaptability to market trends. Their rise to the top reflects an era defined by technological advancements, globalization, and a dynamic business environment. As these giants continue to evolve, their impact on industries and societies remains profound, shaping the trajectory of the business landscape in the years to come.

SubQuestion No : 18

Q.18 What is the tone of the passage?

- Ans
- ☒ 1. Critical
 - ☒ 2. Descriptive
 - ☒ 3. Narrative
 - ☒ 4. Argumentative

Question ID : 630680938417
Option 1 ID : 6306803678111
Option 2 ID : 6306803678112
Option 3 ID : 6306803678114
Option 4 ID : 6306803678113

Comprehension:

A passage is given with 5 questions following it. Read the passage carefully and choose the best answer to each question out of the four alternatives:

Over the past decade, several organizations have emerged as industry leaders, reshaping the global business landscape. Tech giants like Apple, Amazon, and Google have ascended to unprecedented heights. Apple's innovative products and seamless user experience propelled it to become the world's most valuable company. Amazon, with its relentless focus on customer convenience and diverse offerings, transformed into an e-commerce behemoth. Google's dominance in search and online services solidified its position as a digital powerhouse.


Beyond technology, companies like Tesla revolutionized the automotive industry with electric vehicles and sustainable energy solutions. Additionally, Chinese conglomerates like Alibaba and Tencent expanded their influence globally, capitalizing on the booming Asian market. These organizations share a common thread of disruptive innovation, strategic vision, and adaptability to market trends. Their rise to the top reflects an era defined by technological advancements, globalization, and a dynamic business environment. As these giants continue to evolve, their impact on industries and societies remains profound, shaping the trajectory of the business landscape in the years to come.

SubQuestion No : 19

Q.19 How is the passage structured?

- Ans** ☒ 1. Evolution
☒ 2. Enumeration
☒ 3. Classification
☒ 4. Comparison

Question ID : 630680938421
 Option 1 ID : 6306803678130
 Option 2 ID : 6306803678129
 Option 3 ID : 6306803678127
 Option 4 ID : 6306803678128



Comprehension:

A passage is given with 5 questions following it. Read the passage carefully and choose the best answer to each question out of the four alternatives:

Over the past decade, several organizations have emerged as industry leaders, reshaping the global business landscape. Tech giants like Apple, Amazon, and Google have ascended to unprecedented heights. Apple's innovative products and seamless user experience propelled it to become the world's most valuable company. Amazon, with its relentless focus on customer convenience and diverse offerings, transformed into an e-commerce behemoth. Google's dominance in search and online services solidified its position as a digital powerhouse.

Beyond technology, companies like Tesla revolutionized the automotive industry with electric vehicles and sustainable energy solutions. Additionally, Chinese conglomerates like Alibaba and Tencent expanded their influence globally, capitalizing on the booming Asian market. These organizations share a common thread of disruptive innovation, strategic vision, and adaptability to market trends. Their rise to the top reflects an era defined by technological advancements, globalization, and a dynamic business environment. As these giants continue to evolve, their impact on industries and societies remains profound, shaping the trajectory of the business landscape in the years to come.

SubQuestion No : 20

Q.20 Which of the following can be inferred from the passage?

- Ans ☒ 1. Tesla is the only company that produces electric vehicles
- ☒ 2. Apple, Amazon, and Google are competitors in the same industry
- ☒ 3. The business environment is constantly changing
- ☒ 4. Alibaba and Tencent are the largest companies in Asia

Question ID : 630680938419
Option 1 ID : 6306803678120
Option 2 ID : 6306803678119
Option 3 ID : 6306803678122
Option 4 ID : 6306803678121

Section : Test of Hindi Language and Comprehension 1

Q.1 निम्नलिखित में से, दिए गए रिक्त स्थान के लिए सही कारक वाले विकल्प का चयन करें -

‘मेरी माताजी के पास पूजा में पहनने के लिए हरे रंग _____तीन साड़ियाँ थीं।’

- Ans ☒ 1. का
- ☒ 2. की
- ☒ 3. से
- ☒ 4. में

Question ID : 630680938858
Option 1 ID : 6306803679789
Option 2 ID : 6306803679787
Option 3 ID : 6306803679790
Option 4 ID : 6306803679788

Q.2 निम्नलिखित प्रश्न में, चार विकल्पों में से, उस सही विकल्प का चयन करें जो वाक्यांशों के लिए एक शब्द का विकल्प हो।

जिसको गोद में स्थान मिला हो

- Ans
- ☒ 1. अग्रज
 - ☒ 2. अंकस्थ
 - ☒ 3. अगाध
 - ☒ 4. अकिंचन

Question ID : 630680938689
Option 1 ID : 6306803679145
Option 2 ID : 6306803679146
Option 3 ID : 6306803679144
Option 4 ID : 6306803679143

Q.3 निम्नलिखित वाक्यांश के लिए एक शब्द का चयन कीजिए-

वह व्यक्ति जो कष्टों से छुटकारा दिलाता है

- Ans
- ☒ 1. तकाबी
 - ☒ 2. दाता
 - ☒ 3. त्राता
 - ☒ 4. तापत्रय

Question ID : 630680938898
Option 1 ID : 6306803679942
Option 2 ID : 6306803679940
Option 3 ID : 6306803679939
Option 4 ID : 6306803679941

Q.4 निम्नलिखित प्रश्न में, चार विकल्पों में से, उस सही विकल्प का चयन करें जो दिए गए अनुच्छेद के लिए अंतिम वाक्य का सही विकल्प हो।

योग स्वास्थ्य को स्वस्थ बनाए रखने की एक क्रिया है। यह क्रिया बच्चों से लेकर वृद्ध वर्ग तक के लोगों को स्वस्थ रखने में सक्षम है। योग के माध्यम से व्यक्ति शारीरिक तथा मानसिक रूप से भी स्वस्थ रहता है।

- Ans
- ☒ 1. विशेषज्ञों की कभी न मानें योग बड़ी से बड़ी कुछ भी का भी अंत कर सकता है।
 - ☒ 2. विशेषज्ञों की मानें तो, योग बड़ी से बड़ी बीमारियों का भी अंत नहीं कर सकता है।
 - ☒ 3. विशेषज्ञों की मानें तो, योग बड़ी से बड़ी बीमारियों का भी अंत कर सकता है।
 - ☒ 4. विशेषज्ञों की मानें तो, योग से किसी का भी अंत नहीं कर सकता है।

Question ID : 630680938720
Option 1 ID : 6306803679264
Option 2 ID : 6306803679263
Option 3 ID : 6306803679266
Option 4 ID : 6306803679265

Q.5 निम्नलिखित प्रश्न में, चार विकल्पों में से, उस विकल्प का चयन करें जो दिए गए रिक्त स्थान के लिए सही प्रेरणार्थक क्रिया विकल्प है। उचित 'प्रेरणार्थक क्रिया' चुनकर रिक्त स्थान की पूर्ति करें-

मेरे पड़ोसी अपने बेटों _____ हैं।

- Ans
- ☒ 1. से मज़ाक किया करते
 - ☒ 2. से काम करवाते
 - ☒ 3. का काम खुद कर देते
 - ☒ 4. का काम करना पसंद नहीं करते

Question ID : 630680938818
Option 1 ID : 6306803679635
Option 2 ID : 6306803679636
Option 3 ID : 6306803679637
Option 4 ID : 6306803679638

Q.6 निम्नलिखित प्रश्न में, चार विकल्पों में से, उस विकल्प का चयन करें जो दिए गए मुहावरे का सही अर्थ वाला विकल्प है।

आँखें खुल जाना

- Ans
- ☒ 1. लज्जा का अनुभव करना
 - ☒ 2. सामने आना
 - ☒ 3. वास्तविकता का ज्ञान होना
 - ☒ 4. आदरपूर्वक किसी का स्वागत करना

Question ID : 630680938948
Option 1 ID : 6306803680133
Option 2 ID : 6306803680132
Option 3 ID : 6306803680134
Option 4 ID : 6306803680131

Q.7 निम्नलिखित प्रश्न में, चार विकल्पों में से, उस विकल्प का चयन करें जो दी गई लोकोक्ति का सही अर्थ वाला विकल्प है।

कौड़ी न हो पास तो मेला लगे उदास

- Ans
- ☒ 1. समय निकल जाने पर मदद करना व्यर्थ है
 - ☒ 2. चालाकी से एक ही बार काम निकलता है
 - ☒ 3. धन के अभाव में जीवन में कोई आकर्षण नहीं
 - ☒ 4. मूर्ख पर समझाने का असर नहीं होता

Question ID : 630680938739
Option 1 ID : 6306803679337
Option 2 ID : 6306803679338
Option 3 ID : 6306803679336
Option 4 ID : 6306803679335

Q.8 निम्नलिखित प्रश्न में, चार विकल्पों में से, उस विकल्प का चयन करें जो दी गई लोकोक्ति का सही अर्थ वाला विकल्प है।

ओछे की प्रीति, बालू की भीति

- Ans
- ☒ 1. मामूली आदमी
 - ☒ 2. ऐसे लोग जिनके कहीं कोई इज्जत न हो
 - ☒ 3. एक ही प्रवृत्ति के लोग
 - ☒ 4. दुष्ट का प्रेम अस्थिर होता है

Question ID : 630680938741
Option 1 ID : 6306803679345
Option 2 ID : 6306803679343
Option 3 ID : 6306803679346
Option 4 ID : 6306803679344

Q.9 निम्नलिखित में से, उस विकल्प का चयन करें जो दिए गए मुहावरे का उचित अर्थ है।

आसन डोलना

- Ans
- ☒ 1. विरोध में कहना
 - ☒ 2. असम्भव काम करना
 - ☒ 3. विश्वासघाती मित्र
 - ☒ 4. विचलित होना

Question ID : 630680938905
Option 1 ID : 6306803679970
Option 2 ID : 6306803679969
Option 3 ID : 6306803679968
Option 4 ID : 6306803679967

Q.10 निम्नलिखित प्रश्न में, चार विकल्पों में से, उस विकल्प का चयन करें जो कोष्ठक में दिए गए शब्द के अनुसार सही विशेषण के रूप वाला विकल्प है।

मेरा (पुराना) पासपोर्ट अमान्य हो गया है।

- Ans
- ☒ 1. सार्वनामिक विशेषण
 - ☒ 2. परिमाणवाचक विशेषण
 - ☒ 3. गुणवाचक विशेषण
 - ☒ 4. संख्यावाचक विशेषण

Question ID : 630680938986
Option 1 ID : 6306803680277
Option 2 ID : 6306803680278
Option 3 ID : 6306803680276
Option 4 ID : 6306803680275

Q.11 निम्नलिखित प्रश्न में, चार विकल्पों में से, उस विकल्प का चयन करें जो कोष्ठक में दिए गए शब्द के अनुसार सही क्रिया विशेषण के रूप वाला विकल्प है।

आज सभी कार्यकर्ताओं ने (अच्छी तरह) से कार्य खत्म किया।

- Ans
- ☒ 1. स्थानवाचक क्रियाविशेषण
 - ☒ 2. परिमाणवाचक क्रियाविशेषण
 - ☒ 3. रीतिवाचक क्रियाविशेषण
 - ☒ 4. कालवाचक क्रियाविशेषण

Question ID : 630680938695
Option 1 ID : 6306803679168
Option 2 ID : 6306803679167
Option 3 ID : 6306803679169
Option 4 ID : 6306803679170

Q.12 निम्नलिखित मुहावरे के उचित अर्थ वाले विकल्प का चयन करें-

जबान कैची की तरह चलना

- Ans
- ☒ 1. जान पर संकट आ जाना
 - ☒ 2. क्रोध भड़काना
 - ☒ 3. साहस दिखाना
 - ☒ 4. बढ़-चढ़कर तीखी बातें करना

Question ID : 630680938826
Option 1 ID : 6306803679667
Option 2 ID : 6306803679669
Option 3 ID : 6306803679668
Option 4 ID : 6306803679670

Q.13 निम्नलिखित में से कौन सा विकल्प एक सुसंगत वाक्य बनाने के लिए वाक्यांशों को सही क्रम में व्यवस्थित करता है?

- A- ने हमारे जीवन को अधिक आसान
- B- किसी भी समय कहीं से भी कॉल-मैसेज करने
- C- और उत्पादक बना दिया है
- D- और प्राप्त करने में सक्षम होने की सुविधा

- Ans
- ☒ 1. CBDA
 - ☒ 2. BDAC
 - ☒ 3. CDAB
 - ☒ 4. BCDA

Question ID : 630680938807
Option 1 ID : 6306803679598
Option 2 ID : 6306803679596
Option 3 ID : 6306803679595
Option 4 ID : 6306803679597

Q.14 निम्नलिखित वाक्य में, उस वाक्यांश को पहचानिए जिसमें कुछ अशुद्धियाँ हैं। यदि कोई गलती नहीं है तो 'कोई त्रुटि नहीं है' का चुनाव कीजिए।

जहाँ पहले जन्म दर और मनुष्य की मृत्यु दर/ के बीच एक संतुलन था, चिकित्सा विज्ञान की प्रगति/ ने उसमें असंतुलन पैदा कर दिया है।

- Ans
- ✓ 1. कोई त्रुटि नहीं है
 - ✗ 2. जहाँ पहले जन्म दर और मनुष्य की मृत्यु दर
 - ✗ 3. के बीच एक संतुलन था चिकित्सा विज्ञान की प्रगति
 - ✗ 4. ने उसमें असंतुलन पैदा कर दिया है।

Question ID : 630680938745
Option 1 ID : 6306803679362
Option 2 ID : 6306803679359
Option 3 ID : 6306803679360
Option 4 ID : 6306803679361

Q.15 निम्नलिखित वाक्य में दिए गए रिक्त स्थान के लिए उचित रीतिवाचक क्रिया विशेषण का चयन करें-

अमित _____ चलकर शतरंज का खेल जीत गया।

- Ans
- ✗ 1. दूर
 - ✓ 2. गलत चाल
 - ✗ 3. शाम को
 - ✗ 4. ज्यादा

Question ID : 630680938902
Option 1 ID : 6306803679956
Option 2 ID : 6306803679957
Option 3 ID : 6306803679955
Option 4 ID : 6306803679958

Q.16 उचित विकल्प चुनकर, दिए गए वाक्य के कोष्ठक वाले भाग की त्रुटि को दूर करें-

भ्रष्टाचार करने वाला (व्यक्ति अपने दूसरे के लाभ के लिए देश की संपत्ति का) शोषण करता है।

- Ans
- ✓ 1. व्यक्ति निजी लाभ के लिए देश की संपत्ति का
 - ✗ 2. व्यक्ति अपने दूसरे के लाभ के लिए देश की संपत्ति का
 - ✗ 3. व्यक्ति पड़ोसी के लाभ के लिए देश की संपत्ति का
 - ✗ 4. व्यक्ति निजी लाभ के लिए गाँव की संपत्ति का

Question ID : 630680938805
Option 1 ID : 6306803679588
Option 2 ID : 6306803679590
Option 3 ID : 6306803679587
Option 4 ID : 6306803679589

Q.17 दिए गए वाक्य के कोष्ठक वाले भाग में त्रुटि हो सकती है। वह विकल्प चुनें जो इस त्रुटि को ठीक करें। उचित विकल्प चुनकर, दिए गए वाक्य की त्रुटि को दूर करें-

एक शिक्षित महिला सिर्फ अपनी और अपनी ही मांगों को पूरा कर सकती है।

- Ans
- ☒ 1. सिर्फ अपनी और पड़ोसी की मांगों को पूरा
 - ☒ 2. अपनी और दूसरे परिवार दोनों की मांगों को पूरा
 - ☒ 3. अपनी और अपने परिवार दोनों की मांगों को पूरा
 - ☒ 4. ना अपने और ना अपने परिवार दोनों की मांगों को पूरा

Question ID : 630680938806
Option 1 ID : 6306803679591
Option 2 ID : 6306803679592
Option 3 ID : 6306803679594
Option 4 ID : 6306803679593

Q.18 निम्नलिखित प्रश्न में, चार विकल्पों में से, उस सही विकल्प का चयन करें जो दिए गए अनुच्छेद के लिए अंतिम वाक्य का सही विकल्प हो।

अध्यापक का विद्यार्थी जीवन में अत्यधिक महत्व है। अध्यापक वह व्यक्ति होता है, जो उन्हें अच्छी शिक्षा के साथ अन्य महत्वपूर्ण चीजों को सिखाता है। एक अध्यापक अपने विद्यार्थियों के लिए बहुत अधिक मायने रखता है।

- Ans
- ☒ 1. वह उनके जीवन में विकास की प्रारम्भिक अवस्था से परिपक्व होने तक कुछ भी महत्व नहीं रखता।
 - ☒ 2. वह उनके जीवन में विकास की प्रारम्भिक अवस्था तक बहुत अधिक महत्वपूर्ण होता है।
 - ☒ 3. वह उनके जीवन में विकास की प्रारम्भिक अवस्था से परिपक्व होने तक बहुत अधिक महत्वपूर्ण होता है।
 - ☒ 4. वह उनके जीवन में विकास की अंतिम अवस्था से परिपक्व होने तक बहुत अधिक महत्वपूर्ण होता है।

Question ID : 630680938970
Option 1 ID : 6306803680215
Option 2 ID : 6306803680217
Option 3 ID : 6306803680218
Option 4 ID : 6306803680216

Q.19 निम्नलिखित वाक्य में, उस वाक्यांश को पहचानिए जिसमें कुछ अशुद्धियाँ हैं। यदि कोई गलती नहीं है तो 'कोई त्रुटि नहीं है' का चुनाव कीजिए।

मधु रात्रि में तारों की जगमगाहट, मध्य में पूर्ण चन्द्रमंडल/ अपनी रजत किरणों से जगत् को प्रकाशित कर देती है तथा/ मधुर मकरंद-पूरित वायु से संचरण को प्रकृति की पुराना नजारा देखने को मिलता है।

- Ans
- ☒ 1. मधु रात्रि में तारों की जगमगाहट, मध्य में पूर्ण चन्द्रमंडल
 - ☒ 2. मधुर मकरंद-पूरित वायु से संचरण को प्रकृति की पुराना नजारा देखने को मिलता है।
 - ☒ 3. कोई त्रुटि नहीं है
 - ☒ 4. अपनी रजत किरणों से जगत् को प्रकाशित कर देती है तथा

Question ID : 630680938954
Option 1 ID : 6306803680155
Option 2 ID : 6306803680157
Option 3 ID : 6306803680158
Option 4 ID : 6306803680156

Q.20 निम्नलिखित विकल्पों में से कौन सा विकल्प एक सुसंगत वाक्य बनाने के लिए वाक्यांशों को सही ढंग से व्यवस्थित करता है?

- A- खुशी के साथ पानी से भरे बर्तनों को
- B- चलते हुए देखना एक अच्छा अनुभव था
- C- संतुलित करते तथा पंक्ति में एक साथ
- D- उनके चेहरे पर आत्मविश्वास और

Ans ☒ 1. DBAC
☒ 2. CBDA
☒ 3. DACB
☒ 4. CABD

Question ID : 630680938974
Option 1 ID : 6306803680234
Option 2 ID : 6306803680231
Option 3 ID : 6306803680232
Option 4 ID : 6306803680233

Section : Test of Hindi Language and Comprehension 2

Q.1 निम्नलिखित प्रश्न में, चार विकल्पों में से, उस विकल्प का चयन करें जो दिए गए शब्द के विलोम शब्द का विकल्प है।

औगत

Ans ☒ 1. प्रकट
☒ 2. गंभीर
☒ 3. सुगत
☒ 4. विगत

Question ID : 630680938796
Option 1 ID : 6306803679556
Option 2 ID : 6306803679557
Option 3 ID : 6306803679558
Option 4 ID : 6306803679555

Q.2 निम्नलिखित शब्द के तद्भव रूप की पहचान करें-

गोमय

Ans ☒ 1. ग्वाला
☒ 2. गोत
☒ 3. गोबर
☒ 4. गेंहू

Question ID : 630680938832
Option 1 ID : 6306803679691
Option 2 ID : 6306803679694
Option 3 ID : 6306803679692
Option 4 ID : 6306803679693

Q.3 निम्नलिखित चार विकल्पों में से, उस विकल्प का चयन करें जो दिए गए शब्द के अनेकार्थी रूप का विकल्प नहीं है।

प्रतीक

- Ans ☒ 1. प्रतिमा
☒ 2. प्रतिरूप
☒ 3. चिह्न
☒ 4. निशानी

Question ID : 630680938958
Option 1 ID : 6306803680173
Option 2 ID : 6306803680171
Option 3 ID : 6306803680174
Option 4 ID : 6306803680172

Q.4 निम्नलिखित प्रश्न में, चार विकल्पों में से, उस विकल्प का चयन करें जो दिए गए शब्द के पर्यायवाची शब्द का सही विकल्प नहीं है।

ठौर

- Ans ☒ 1. मुँ
☒ 2. स्थान
☒ 3. जगह
☒ 4. स्थल

Question ID : 630680938961
Option 1 ID : 6306803680183
Option 2 ID : 6306803680186
Option 3 ID : 6306803680185
Option 4 ID : 6306803680184

Q.5 निम्नलिखित वाक्य में, उस वाक्यांश को पहचानिए जिसमें कुछ अशुद्धियाँ हैं यदि कोई अशुद्धि नहीं है तो 'कोई त्रुटि नहीं है' का चुनाव कीजिए-

वर्तमान में घोड़े को उपयोग में लेने के तरीकों में बदलाव/ आया है, उसे अब घुड़सवारी, खेल खेलने और सैलानियों में/ घुमाने के लिए काम में लिया जाता है।

- Ans ☒ 1. आया है, उसे अब घुड़सवारी, खेल खेलने और सैलानियों में
☒ 2. वर्तमान में घोड़े को उपयोग में लेने के तरीकों में बदलाव
☒ 3. कोई त्रुटि नहीं है
☒ 4. घुमाने के लिए काम में लिया जाता है।

Question ID : 630680938828
Option 1 ID : 6306803679676
Option 2 ID : 6306803679675
Option 3 ID : 6306803679678
Option 4 ID : 6306803679677

Q.6 निम्नलिखित प्रश्न में, चार विकल्पों में से, उस विकल्प का चयन करें जो दिए गए शब्द के विलोम शब्द का विकल्प है।

आर्द्र

- Ans
- ☒ 1. अदरक
 - ☒ 2. आधा
 - ☒ 3. अवस्था
 - ☒ 4. शुष्क

Question ID : 630680938752
Option 1 ID : 6306803679387
Option 2 ID : 6306803679389
Option 3 ID : 6306803679390
Option 4 ID : 6306803679388

Q.7 निम्नलिखित प्रश्न में, चार विकल्पों में से, उस विकल्प का चयन करें जो दिए गए शब्द के अनेकार्थी रूप वाला सही विकल्प नहीं है।

नंदा

- Ans
- ☒ 1. संपत्ति
 - ☒ 2. ननद
 - ☒ 3. आनंद
 - ☒ 4. स्वभाव

Question ID : 630680938749
Option 1 ID : 6306803679376
Option 2 ID : 6306803679378
Option 3 ID : 6306803679375
Option 4 ID : 6306803679377

Q.8 निम्नलिखित शब्द के तत्सम रूप की पहचान करें-

गधा

- Ans
- ☒ 1. गर्जर
 - ☒ 2. गुहा
 - ☒ 3. गर्जन
 - ☒ 4. गर्दभ

Question ID : 630680938831
Option 1 ID : 6306803679689
Option 2 ID : 6306803679690
Option 3 ID : 6306803679687
Option 4 ID : 6306803679688

Q.9 निम्नलिखित वाक्य में, उस वाक्यांश को पहचानिए जिसमें कुछ अशुद्धियाँ हैं। यदि कोई गलती नहीं है तो 'कोई त्रुटि नहीं है' का चुनाव कीजिए।

यह अब तक की सबसे अच्छी छुट्टियों में से एक थीं/ जब मैं अपने परिवार से मिलने गया और मुझे बहुत/ सारी खूबसूरत चीजें और जगह देखने को मिली।

- Ans
- ☒ 1. यह अब तक की सबसे अच्छी छुट्टियों में से एक थीं
 - ☒ 2. सारी खूबसूरत चीजें और जगह देखने को मिली।
 - ☒ 3. जब मैं अपने परिवार से मिलने गया और मुझे बहुत
 - ☒ 4. कोई त्रुटि नहीं है

Question ID : 630680938993
Option 1 ID : 6306803680303
Option 2 ID : 6306803680305
Option 3 ID : 6306803680304
Option 4 ID : 6306803680306

Q.10 निम्नलिखित प्रश्न में, चार विकल्पों में से, उस विकल्प का चयन करें जो दिए गए शब्द के पर्यायवाची शब्द का सही विकल्प नहीं है।

शैली

- Ans
- ☒ 1. प्रणाली
 - ☒ 2. प्रधान
 - ☒ 3. विधि
 - ☒ 4. ढंग

Question ID : 630680939001
Option 1 ID : 6306803680337
Option 2 ID : 6306803680338
Option 3 ID : 6306803680335
Option 4 ID : 6306803680336

Comprehension:

नीचे दिए गये गद्यांश में कुछ शब्द छोड़ दिये गए हैं, प्रत्येक अनुच्छेद के सामने चार विकल्प दिए गए गया है। इस गद्यांश को ध्यानपूर्वक पढ़ें और चार विकल्पों में से सर्वोत्तम उत्तर वाला विकल्प चुनें।

हमें माता-पिता, शिक्षकों और अपने बुजुर्गों की आज्ञा का पालन करना चाहिए। हमें उनकी _____ के बारे में जानने और उनकी असफलताओं से सीखने के लिए उन्हें सुनना चाहिए। जब भी हम किसी चीज को गहराई से देखना शुरू करते हैं, तो यह हमें जीवन का एक महत्वपूर्ण _____ देती है। प्रकृति से हम _____ का सही से पालन करना सीख सकते हैं। इसलिए, हमें भी इस धरती पर जीवन चक्र को बनाए रखने के लिए अनुशासन में रहने की आवश्यकता है। हमारे जीवन, माता-पिता, शिक्षक, परिवार, पर्यावरण, वातावरण आदि के प्रति हमारी बहुत सारी _____ हैं। उन जिम्मेदारियों को समझते हुए हमें अपने कर्तव्य का पालन करना चाहिए। एक इंसान के रूप में, हमारे पास सोचने, सही या गलत के बारे में निर्णय लेने और इसे कार्य में बदलने के लिए अपनी _____ को लागू करने के लिए बहुत दिमाग है।

SubQuestion No : 11

Q.11 हमें उनकी _____ के बारे में जानने और उनकी जीत और असफलताओं से सीखने के लिए उन्हें सुनना चाहिए।

- Ans
- ☒ 1. दिखावे
 - ☒ 2. मस्ती
 - ☒ 3. बहकावे
 - ☒ 4. अनुभवों

Question ID : 630680938768
Option 1 ID : 6306803679444
Option 2 ID : 6306803679443
Option 3 ID : 6306803679445
Option 4 ID : 6306803679446

Comprehension:

नीचे दिए गये गद्यांश में कुछ शब्द छोड़ दिये गए हैं, प्रत्येक अनुच्छेद के सामने चार विकल्प दिए गए गया है। इस गद्यांश को ध्यानपूर्वक पढ़ें और चार विकल्पों में से सर्वोत्तम उत्तर वाला विकल्प चुनें।

हमें माता-पिता, शिक्षकों और अपने बुजुर्गों की आज्ञा का पालन करना चाहिए। हमें उनकी _____ के बारे में जानने और उनकी असफलताओं से सीखने के लिए उन्हें सुनना चाहिए। जब भी हम किसी चीज को गहराई से देखना शुरू करते हैं, तो यह हमें जीवन का एक महत्वपूर्ण _____ देती है। प्रकृति से हम _____ का सही से पालन करना सीख सकते हैं। इसलिए, हमें भी इस धरती पर जीवन चक्र को बनाए रखने के लिए अनुशासन में रहने की आवश्यकता है। हमारे जीवन, माता-पिता, शिक्षक, परिवार, पर्यावरण, वातावरण आदि के प्रति हमारी बहुत सारी _____ हैं। उन जिम्मेदारियों को समझते हुए हमें अपने कर्तव्य का पालन करना चाहिए। एक इंसान के रूप में, हमारे पास सोचने, सही या गलत के बारे में निर्णय लेने और इसे कार्य में बदलने के लिए अपनी _____ को लागू करने के लिए बहुत दिमाग है।

SubQuestion No : 12

Q.12 हमें जीवन का एक महत्वपूर्ण _____ देती है।

Ans ☒ 1. सबक

☐ 2. दिन

☐ 3. खिताब

☐ 4. वस्तुएं

Question ID : 630680938769
Option 1 ID : 6306803679449
Option 2 ID : 6306803679450
Option 3 ID : 6306803679448
Option 4 ID : 6306803679447

Comprehension:

नीचे दिए गये गद्यांश में कुछ शब्द छोड़ दिये गए हैं, प्रत्येक अनुच्छेद के सामने चार विकल्प दिए गए गया है। इस गद्यांश को ध्यानपूर्वक पढ़ें और चार विकल्पों में से सर्वोत्तम उत्तर वाला विकल्प चुनें।

हमें माता-पिता, शिक्षकों और अपने बुजुर्गों की आज्ञा का पालन करना चाहिए। हमें उनकी _____ के बारे में जानने और उनकी असफलताओं से सीखने के लिए उन्हें सुनना चाहिए। जब भी हम किसी चीज को गहराई से देखना शुरू करते हैं, तो यह हमें जीवन का एक महत्वपूर्ण _____ देती है। प्रकृति से हम _____ का सही से पालन करना सीख सकते हैं। इसलिए, हमें भी इस धरती पर जीवन चक्र को बनाए रखने के लिए अनुशासन में रहने की आवश्यकता है। हमारे जीवन, माता-पिता, शिक्षक, परिवार, पर्यावरण, वातावरण आदि के प्रति हमारी बहुत सारी _____ हैं। उन जिम्मेदारियों को समझते हुए हमें अपने कर्तव्य का पालन करना चाहिए। एक इंसान के रूप में, हमारे पास सोचने, सही या गलत के बारे में निर्णय लेने और इसे कार्य में बदलने के लिए अपनी _____ को लागू करने के लिए बहुत दिमाग है।

SubQuestion No : 13

Q.13 प्रकृति से हम _____ का सही से पालन करना सीख सकते हैं।

Ans ☒ 1. अनुशासन

☐ 2. कामों

☐ 3. जानकारी

☐ 4. बातों

Question ID : 630680938770
Option 1 ID : 6306803679454
Option 2 ID : 6306803679451
Option 3 ID : 6306803679453
Option 4 ID : 6306803679452

Comprehension:

नीचे दिए गये गद्यांश में कुछ शब्द छोड़ दिये गए हैं, प्रत्येक अनुच्छेद के सामने चार विकल्प दिए गए गया है। इस गद्यांश को ध्यानपूर्वक पढ़ें और चार विकल्पों में से सर्वोत्तम उत्तर वाला विकल्प चुनें।

हमें माता-पिता, शिक्षकों और अपने बुजुर्गों की आज्ञा का पालन करना चाहिए। हमें उनकी _____ के बारे में जानने और उनकी असफलताओं से सीखने के लिए उन्हें सुनना चाहिए। जब भी हम किसी चीज को गहराई से देखना शुरू करते हैं, तो यह हमें जीवन का एक महत्वपूर्ण _____ देती है। प्रकृति से हम _____ का सही से पालन करना सीख सकते हैं। इसलिए, हमें भी इस धरती पर जीवन चक्र को बनाए रखने के लिए अनुशासन में रहने की आवश्यकता है। हमारे जीवन, माता-पिता, शिक्षक, परिवार, पर्यावरण, वातावरण आदि के प्रति हमारी बहुत सारी _____ हैं। उन जिम्मेदारियों को समझते हुए हमें अपने कर्तव्य का पालन करना चाहिए। एक इंसान के रूप में, हमारे पास सोचने, सही या गलत के बारे में निर्णय लेने और इसे कार्य में बदलने के लिए अपनी _____ को लागू करने के लिए बहुत दिमाग है।

SubQuestion No : 14

Q.14 हमारे जीवन, माता-पिता, शिक्षक, परिवार, पर्यावरण, वातावरण आदि के प्रति हमारी बहुत सारी _____ हैं।

- Ans
- ☒ 1. मांगें
 - ☒ 2. बीमारियाँ
 - ☒ 3. जिम्मेदारियाँ
 - ☒ 4. शिकायतें

Question ID : 630680938771
Option 1 ID : 6306803679457
Option 2 ID : 6306803679455
Option 3 ID : 6306803679456
Option 4 ID : 6306803679458

Comprehension:

नीचे दिए गये गद्यांश में कुछ शब्द छोड़ दिये गए हैं, प्रत्येक अनुच्छेद के सामने चार विकल्प दिए गए गया है। इस गद्यांश को ध्यानपूर्वक पढ़ें और चार विकल्पों में से सर्वोत्तम उत्तर वाला विकल्प चुनें।

हमें माता-पिता, शिक्षकों और अपने बुजुर्गों की आज्ञा का पालन करना चाहिए। हमें उनकी _____ के बारे में जानने और उनकी असफलताओं से सीखने के लिए उन्हें सुनना चाहिए। जब भी हम किसी चीज को गहराई से देखना शुरू करते हैं, तो यह हमें जीवन का एक महत्वपूर्ण _____ देती है। प्रकृति से हम _____ का सही से पालन करना सीख सकते हैं। इसलिए, हमें भी इस धरती पर जीवन चक्र को बनाए रखने के लिए अनुशासन में रहने की आवश्यकता है। हमारे जीवन, माता-पिता, शिक्षक, परिवार, पर्यावरण, वातावरण आदि के प्रति हमारी बहुत सारी _____ हैं। उन जिम्मेदारियों को समझते हुए हमें अपने कर्तव्य का पालन करना चाहिए। एक इंसान के रूप में, हमारे पास सोचने, सही या गलत के बारे में निर्णय लेने और इसे कार्य में बदलने के लिए अपनी _____ को लागू करने के लिए बहुत दिमाग है।

SubQuestion No : 15

Q.15 एक इंसान के रूप में, हमारे पास सोचने, सही या गलत के बारे में निर्णय लेने और इसे कार्य में बदलने के लिए अपनी _____ को लागू करने के लिए बहुत दिमाग है।

- Ans
- ☒ 1. कार्य
 - ☒ 2. योजनाओं
 - ☒ 3. दिनचर्या
 - ☒ 4. परिवार

Question ID : 630680938772
Option 1 ID : 6306803679461
Option 2 ID : 6306803679459
Option 3 ID : 6306803679460
Option 4 ID : 6306803679462

Comprehension:

नीचे दिए गये गद्यांश के बाद 5 प्रश्न दिए गये हैं। इस गद्यांश को ध्यानपूर्वक पढ़ें और चार विकल्पों में से प्रत्येक प्रश्न का सर्वोत्तम उत्तर चुनें।

पर्यावरण प्रदूषण उस स्थिति को कहते हैं जब हमारे द्वारा की गई अलग-अलग गतिविधियों से दूषित सामग्री पर्यावरण में मिल जाती है। यह हमारी दिनचर्या की प्रक्रिया को मुख्य रूप से बाधा पहुँचाती है और इस वजह से पर्यावरण में एक बड़ा बदलाव देखने को मिलता है। जो पर्यावरण में प्रदूषण फैलाने का काम करते हैं उन्हें प्रदूषक तत्व कहा जाता है। यह प्रदूषक तत्व पर्यावरण में ऊर्जा की कमी के रूप में भी शामिल हो सकते हैं। प्रकृति से हमें जीवन यापन के लिए, हमारे स्वास्थ्य को ठीक रखने के लिए तथा अपना विकास तेज गति से करने के लिए बहुत से प्राकृतिक संसाधन मुफ्त में मिले हैं। परंतु समय के साथ-साथ हम इतने स्वार्थी और लालची होते जा रहे हैं कि अपने उसी पर्यावरण को प्रदूषित करते हुए उसे नष्ट करने पर तुले हुए हैं। इस बात को समझे बिना ही कि अगर हमारा पर्यावरण पूरी तरह से प्रदूषित हो जाएगा, तो फिर ये आने वाले समय में हमें और हमारी आने वाली पीढ़ी के स्वास्थ्य और भविष्य पर गंभीर रूप से अपना प्रभाव डालेगा। फिर एक समय ऐसा आएगा जब हम सभी के पास पृथ्वी पर जिंदा रहने के लिए कोई प्राकृतिक संसाधन नहीं बचेंगे। इसीलिए हमें पर्यावरण प्रदूषण के कारण को गंभीरता से लेना होगा और जल्द से जल्द इन कारणों को दूर करना होगा।

SubQuestion No : 16

Q.16 निम्नलिखित प्रश्न में, चार विकल्पों में से, उस विकल्प का चयन करें जो दिए गए शब्द के विलोम शब्द का विकल्प है।

गंभीर

- Ans ☒ 1. कठोर
☒ 2. चंचल
☒ 3. मुश्किल
☒ 4. श्रेष्ठ

Question ID : 630680938802
Option 1 ID : 6306803679575
Option 2 ID : 6306803679577
Option 3 ID : 6306803679578
Option 4 ID : 6306803679576

Comprehension:

नीचे दिए गये गद्यांश के बाद 5 प्रश्न दिए गये हैं। इस गद्यांश को ध्यानपूर्वक पढ़ें और चार विकल्पों में से प्रत्येक प्रश्न का सर्वोत्तम उत्तर चुनें।

पर्यावरण प्रदूषण उस स्थिति को कहते हैं जब हमारे द्वारा की गई अलग-अलग गतिविधियों से दूषित सामग्री पर्यावरण में मिल जाती है। यह हमारी दिनचर्या की प्रक्रिया को मुख्य रूप से बाधा पहुँचाती है और इस वजह से पर्यावरण में एक बड़ा बदलाव देखने को मिलता है। जो पर्यावरण में प्रदूषण फैलाने का काम करते हैं उन्हें प्रदूषक तत्व कहा जाता है। यह प्रदूषक तत्व पर्यावरण में ऊर्जा की कमी के रूप में भी शामिल हो सकते हैं। प्रकृति से हमें जीवन यापन के लिए, हमारे स्वास्थ्य को ठीक रखने के लिए तथा अपना विकास तेज गति से करने के लिए बहुत से प्राकृतिक संसाधन मुफ्त में मिले हैं। परंतु समय के साथ-साथ हम इतने स्वार्थी और लालची होते जा रहे हैं कि अपने उसी पर्यावरण को प्रदूषित करते हुए उसे नष्ट करने पर तुले हुए हैं। इस बात को समझे बिना ही कि अगर हमारा पर्यावरण पूरी तरह से प्रदूषित हो जाएगा, तो फिर ये आने वाले समय में हमें और हमारी आने वाली पीढ़ी के स्वास्थ्य और भविष्य पर गंभीर रूप से अपना प्रभाव डालेगा। फिर एक समय ऐसा आएगा जब हम सभी के पास पृथ्वी पर जिंदा रहने के लिए कोई प्राकृतिक संसाधन नहीं बचेंगे। इसीलिए हमें पर्यावरण प्रदूषण के कारण को गंभीरता से लेना होगा और जल्द से जल्द इन कारणों को दूर करना होगा।

SubQuestion No : 17

Q.17 इस अनुच्छेद का कोई उपयुक्त शीर्षक-

- Ans ☒ 1. जीवन यापन
☒ 2. पृथ्वी और भविष्य
☒ 3. पर्यावरण प्रदूषण
☒ 4. स्वार्थी मनुष्य

Question ID : 630680938798
Option 1 ID : 6306803679562
Option 2 ID : 6306803679561
Option 3 ID : 6306803679560
Option 4 ID : 6306803679559

Comprehension:

नीचे दिए गये गद्यांश के बाद 5 प्रश्न दिए गये हैं। इस गद्यांश को ध्यानपूर्वक पढ़ें और चार विकल्पों में से प्रत्येक प्रश्न का सर्वोत्तम उत्तर चुनें।

पर्यावरण प्रदूषण उस स्थिति को कहते हैं जब हमारे द्वारा की गई अलग-अलग गतिविधियों से दूषित सामग्री पर्यावरण में मिल जाती है। यह हमारी दिनचर्या की प्रक्रिया को मुख्य रूप से बाधा पहुँचाती है और इस वजह से पर्यावरण में एक बड़ा बदलाव देखने को मिलता है। जो पर्यावरण में प्रदूषण फैलाने का काम करते हैं उन्हें प्रदूषक तत्व कहा जाता है। यह प्रदूषक तत्व पर्यावरण में ऊर्जा की कमी के रूप में भी शामिल हो सकते हैं। प्रकृति से हमें जीवन यापन के लिए, हमारे स्वास्थ्य को ठीक रखने के लिए तथा अपना विकास तेज गति से करने के लिए बहुत से प्राकृतिक संसाधन मुफ्त में मिले हैं। परंतु समय के साथ-साथ हम इतने स्वार्थी और लालची होते जा रहे हैं कि अपने उसी पर्यावरण को प्रदूषित करते हुए उसे नष्ट करने पर तुले हुए हैं। इस बात को समझे बिना ही कि अगर हमारा पर्यावरण पूरी तरह से प्रदूषित हो जाएगा, तो फिर ये आने वाले समय में हमें और हमारी आने वाली पीढ़ी के स्वास्थ्य और भविष्य पर गंभीर रूप से अपना प्रभाव डालेगा। फिर एक समय ऐसा आएगा जब हम सभी के पास पृथ्वी पर जिंदा रहने के लिए कोई प्राकृतिक संसाधन नहीं बचेंगे। इसीलिए हमें पर्यावरण प्रदूषण के कारण को गंभीरता से लेना होगा और जल्द से जल्द इन कारणों को दूर करना होगा।

SubQuestion No : 18

Q.18 अनुच्छेद के अनुसार पर्यावरण में ऊर्जा की कमी के रूप में क्या शामिल है?

- Ans
- ☒ 1. समय की कमी
 - ☒ 2. तेज़ गति से विकास
 - ☒ 3. मनुष्य की कार्यक्षमता
 - ☒ 4. प्रदूषक तत्व

Question ID : 630680938799
Option 1 ID : 6306803679565
Option 2 ID : 6306803679564
Option 3 ID : 6306803679563
Option 4 ID : 6306803679566

Comprehension:

नीचे दिए गये गद्यांश के बाद 5 प्रश्न दिए गये हैं। इस गद्यांश को ध्यानपूर्वक पढ़ें और चार विकल्पों में से प्रत्येक प्रश्न का सर्वोत्तम उत्तर चुनें।

पर्यावरण प्रदूषण उस स्थिति को कहते हैं जब हमारे द्वारा की गई अलग-अलग गतिविधियों से दूषित सामग्री पर्यावरण में मिल जाती है। यह हमारी दिनचर्या की प्रक्रिया को मुख्य रूप से बाधा पहुँचाती है और इस वजह से पर्यावरण में एक बड़ा बदलाव देखने को मिलता है। जो पर्यावरण में प्रदूषण फैलाने का काम करते हैं उन्हें प्रदूषक तत्व कहा जाता है। यह प्रदूषक तत्व पर्यावरण में ऊर्जा की कमी के रूप में भी शामिल हो सकते हैं। प्रकृति से हमें जीवन यापन के लिए, हमारे स्वास्थ्य को ठीक रखने के लिए तथा अपना विकास तेज गति से करने के लिए बहुत से प्राकृतिक संसाधन मुफ्त में मिले हैं। परंतु समय के साथ-साथ हम इतने स्वार्थी और लालची होते जा रहे हैं कि अपने उसी पर्यावरण को प्रदूषित करते हुए उसे नष्ट करने पर तुले हुए हैं। इस बात को समझे बिना ही कि अगर हमारा पर्यावरण पूरी तरह से प्रदूषित हो जाएगा, तो फिर ये आने वाले समय में हमें और हमारी आने वाली पीढ़ी के स्वास्थ्य और भविष्य पर गंभीर रूप से अपना प्रभाव डालेगा। फिर एक समय ऐसा आएगा जब हम सभी के पास पृथ्वी पर जिंदा रहने के लिए कोई प्राकृतिक संसाधन नहीं बचेंगे। इसीलिए हमें पर्यावरण प्रदूषण के कारण को गंभीरता से लेना होगा और जल्द से जल्द इन कारणों को दूर करना होगा।

SubQuestion No : 19

Q.19 निम्नलिखित प्रश्न में, चार विकल्पों में से, उस विकल्प का चयन करें जो दिए गए शब्द के पर्यायवाची शब्द का विकल्प नहीं है।

गतिविधि

- Ans
- ☒ 1. क्रिया-कलाप
 - ☒ 2. वितरण
 - ☒ 3. चेष्टा
 - ☒ 4. चाल-ढाल

Question ID : 630680938801
Option 1 ID : 6306803679572
Option 2 ID : 6306803679571
Option 3 ID : 6306803679573
Option 4 ID : 6306803679574

Comprehension:

नीचे दिए गये गद्यांश के बाद 5 प्रश्न दिए गये हैं। इस गद्यांश को ध्यानपूर्वक पढ़ें और चार विकल्पों में से प्रत्येक प्रश्न का सर्वोत्तम उत्तर चुनें।

पर्यावरण प्रदूषण उस स्थिति को कहते हैं जब हमारे द्वारा की गई अलग-अलग गतिविधियों से दूषित सामग्री पर्यावरण में मिल जाती है। यह हमारी दिनचर्या की प्रक्रिया को मुख्य रूप से बाधा पहुँचाती है और इस वजह से पर्यावरण में एक बड़ा बदलाव देखने को मिलता है। जो पर्यावरण में प्रदूषण फैलाने का काम करते हैं उन्हें प्रदूषक तत्व कहा जाता है। यह प्रदूषक तत्व पर्यावरण में ऊर्जा की कमी के रूप में भी शामिल हो सकते हैं। प्रकृति से हमें जीवन यापन के लिए, हमारे स्वास्थ्य को ठीक रखने के लिए तथा अपना विकास तेज गति से करने के लिए बहुत से प्राकृतिक संसाधन मुफ्त में मिले हैं। परंतु समय के साथ-साथ हम इतने स्वार्थी और लालची होते जा रहे हैं कि अपने उसी पर्यावरण को प्रदूषित करते हुए उसे नष्ट करने पर तुले हुए हैं। इस बात को समझे बिना ही कि अगर हमारा पर्यावरण पूरी तरह से प्रदूषित हो जाएगा, तो फिर ये आने वाले समय में हमें और हमारी आने वाली पीढ़ी के स्वास्थ्य और भविष्य पर गंभीर रूप से अपना प्रभाव डालेगा। फिर एक समय ऐसा आएगा जब हम सभी के पास पृथ्वी पर ज़िंदा रहने के लिए कोई प्राकृतिक संसाधन नहीं बचेंगे। इसीलिए हमें पर्यावरण प्रदूषण के कारण को गंभीरता से लेना होगा और जल्द से जल्द इन कारणों को दूर करना होगा।

SubQuestion No : 20

Q.20 अनुच्छेद के अनुसार पर्यावरण प्रदूषण के कारण को गंभीरता से लेना क्यों आवश्यक है?

- Ans ☒ 1. पृथ्वी पर ज़िंदा रहने के लिए
- ☐ 2. मुफ्त में साधन उपलब्ध करने के लिए
- ☐ 3. प्राकृतिक संसाधन को खत्म करने के लिए
- ☐ 4. प्रदूषण को फैलाने के लिए

Question ID : 630680938800
Option 1 ID : 6306803679568
Option 2 ID : 6306803679570
Option 3 ID : 6306803679567
Option 4 ID : 6306803679569