

# **DSSSB Asst Suprt.**

**Previous Year Paper  
14 Jul, 2024 Shift 1**



Adda247

# Test Prime

**ALL EXAMS, ONE SUBSCRIPTION**



**80,000+**  
Mock Tests



**Personalised  
Report Card**



**Unlimited  
Re-Attempt**



**600+**  
Exam Covered



**20,000+** Previous  
Year Papers



**500%**  
Refund



**ATTEMPT FREE MOCK NOW**



GOVT. OF NCT OF DELHI  
Delhi Subordinate Services Selection Board  
FC-18, Institutional Area, Karkardooma, Delhi – 110092.  
[www.dsssb.delhigovt.nic.in](http://www.dsssb.delhigovt.nic.in)

Participant ID	
Participant Name	
Test Center Name	
Test Date	
Test Time	8:30 AM - 10:30 AM
Subject	Assistant Superintendent

Section : General intelligence and Reasoning Ability 1

Q.1 Select the option that is related to the sixth number cluster in the same way as the first number cluster is related to the second number cluster and third number cluster is related to fourth number cluster. (NOTE: Operations should be performed on the whole numbers, without breaking down the numbers into its constituent digits. E.g.13– Operations on 13 such as adding /subtracting /multiplying etc. to 13 can be performed. Breaking down 13 into 1 and 3 and then performing mathematical operations on 1 and 3 is not allowed)

16 : 256 :: 25 : 625 :: ? : 961

- Ans
- ☒ 1. 32
  - ☒ 2. 33
  - ☒ 3. 30
  - ☒ 4. 31

Question ID : 630680937995  
Option 1 ID : 6306803676459  
Option 2 ID : 6306803676460  
Option 3 ID : 6306803676458  
Option 4 ID : 6306803676457

Q.2 Select the option that is related to the first number cluster in the same way as the fourth number cluster is related to the third number cluster and sixth number cluster is related to fifth number cluster. (NOTE: Operations should be performed on the whole numbers, without breaking down the numbers into its constituent digits. E.g.13– Operations on 13 such as adding /subtracting /multiplying etc. to 13 can be performed. Breaking down 13 into 1 and 3 and then performing mathematical operations on 1 and 3 is not allowed)

36 : ? :: 48 : 96 :: 79 : 158

- Ans
- ☒ 1. 72
  - ☒ 2. 70
  - ☒ 3. 73
  - ☒ 4. 71

Question ID : 630680937955  
Option 1 ID : 6306803676299  
Option 2 ID : 6306803676297  
Option 3 ID : 6306803676300  
Option 4 ID : 6306803676298

Q.3 After arranging the given words according to dictionary order, which word will come at 'Fifth' position?

1. Receipt
2. Receptacle
3. Recessim
4. Reception
5. Recess

Ans ☒ 1. Receptacle  
☒ 2. Reception  
☒ 3. Recess  
☒ 4. Recessim

Question ID : 630680938127  
 Option 1 ID : 6306803676986  
 Option 2 ID : 6306803676988  
 Option 3 ID : 6306803676985  
 Option 4 ID : 6306803676987

Q.4 In the following question, select the missing number from the given series.

311, 310, 302, 275, 211, ?

Ans ☒ 1. 87  
☒ 2. 86  
☒ 3. 85  
☒ 4. 88

Question ID : 630680938194  
 Option 1 ID : 6306803677255  
 Option 2 ID : 6306803677254  
 Option 3 ID : 6306803677253  
 Option 4 ID : 6306803677256

Q.5 In a certain code language, 'PEN' is coded as 'MBK', 'THING' is coded as 'QEFKD'. How will 'TOWARD' be coded in that code language?

Ans ☒ 1. OMTXOA  
☒ 2. QLUYOA  
☒ 3. QLTXOA  
☒ 4. QLUXOA

Question ID : 630680938204  
 Option 1 ID : 6306803677296  
 Option 2 ID : 6306803677293  
 Option 3 ID : 6306803677295  
 Option 4 ID : 6306803677294

Q.6 By interchanging the given two signs and numbers (not digits) which of the following equation will be NOT correct?

× and −, 8 and 5

Ans ☒ 1.  $7 \times 5 - 8 + 4 \div 2 = -31$

☒ 2.  $4 \div 2 \times 8 - 5 + 3 = 1$

☒ 3.  $8 - 5 \times 2 + 7 \div 1 = 45$

☒ 4.  $8 \times 4 + 6 \div 3 - 5 = 17$

Question ID : 630680938032

Option 1 ID : 6306803676607

Option 2 ID : 6306803676608

Option 3 ID : 6306803676606

Option 4 ID : 6306803676605

Q.7 P is the wife of Q. Q is the brother of S. S is the brother of R. R is the mother of T. Who is the wife of brother of R?

Ans ☒ 1. S

☒ 2. T

☒ 3. P

☒ 4. Q

Question ID : 630680938011

Option 1 ID : 6306803676523

Option 2 ID : 6306803676524

Option 3 ID : 6306803676521

Option 4 ID : 6306803676522

Q.8 Select that missing pair (Third letter cluster : Fourth letter cluster) which is related in the same way as the first letter cluster is related to the second letter cluster and fifth letter cluster is related to sixth letter cluster.

RTW : SVZ :: ? :: ADH : BFK

Ans ☒ 1. BGE : CIB

☒ 2. PHK : QJL

☒ 3. TNI : UPL

☒ 4. DKM : CIJ

Question ID : 630680938056

Option 1 ID : 6306803676704

Option 2 ID : 6306803676701

Option 3 ID : 6306803676703

Option 4 ID : 6306803676702

Q.9 In the following question, select the missing number from the given series.

117, 125, 133, 141, 149, 157, ?

- Ans

✔ 1. 165

✘ 2. 167

✘ 3. 163

✘ 4. 169

Question ID : 630680937953

Option 1 ID : 6306803676289

Option 2 ID : 6306803676290

Option 3 ID : 6306803676292

Option 4 ID : 6306803676291

Q.10 Select the option in which the numbers shares the same relationship in set as that shared by the numbers in the given set. (NOTE: Operations should be performed on the whole numbers, without breaking down the numbers into its constituent digits. E.g.13 – Operations on 13 such as adding /subtracting /multiplying etc. to 13 can be performed. Breaking down 13 into 1 and 3 and then performing mathematical operations on 1 and 3 is not allowed)

(16, 176, 304)  
(2, 22, 38)

- Ans

✘ 1. (16, 19, 360)

✔ 2. (15, 165, 285)

✘ 3. (25, 365, 625)

✘ 4. (18, 19, 324)

Question ID : 630680938157

Option 1 ID : 6306803677108

Option 2 ID : 6306803677105

Option 3 ID : 6306803677106

Option 4 ID : 6306803677107

Q.11 In a certain code language, 'SCHEDULE' is written as 'VCLUVYTJ'. What is the code for 'ANALYSIS' in that code language?

- Ans

✘ 1. JKPRCERP

✘ 2. JKJCPRER

✔ 3. JZJPCRER

✘ 4. JKJCPTET

Question ID : 630680938086

Option 1 ID : 6306803676822

Option 2 ID : 6306803676823

Option 3 ID : 6306803676821

Option 4 ID : 6306803676824

Q.12 Select that missing pair (Fifth letter cluster : Sixth letter cluster) which is related in the same way as the first letter cluster is related to the second letter cluster and third letter cluster is related to fourth letter cluster.

FGI : HIK :: NPR : PRT :: ?

- Ans
- ☒ 1. DIK : BJI
  - ☒ 2. NPQ : PNS
  - ☒ 3. DEF : FGH
  - ☒ 4. GKL : JMM

Question ID : 630680938216  
Option 1 ID : 6306803677344  
Option 2 ID : 6306803677342  
Option 3 ID : 6306803677341  
Option 4 ID : 6306803677343

Q.13 In a certain code language, 'JOKES' is written as '21359', 'SOCKET' is written as '823917', 'OKMT' is written as '9028'. What can be the code for 'E' in that code language?

- Ans
- ☒ 1. 3
  - ☒ 2. 8
  - ☒ 3. 2
  - ☒ 4. 7

Question ID : 630680937926  
Option 1 ID : 6306803676183  
Option 2 ID : 6306803676181  
Option 3 ID : 6306803676182  
Option 4 ID : 6306803676184

Q.14 'A × B' means 'A is the mother of B', 'A ÷ B' means 'A is the son of B', 'A – B' means 'A is the sister of B'. If T × Y – X ÷ Z ÷ R, then how is T related to Z?

- Ans
- ☒ 1. Mother
  - ☒ 2. Wife
  - ☒ 3. Husband's sister
  - ☒ 4. Sister

Question ID : 630680938052  
Option 1 ID : 6306803676688  
Option 2 ID : 6306803676685  
Option 3 ID : 6306803676687  
Option 4 ID : 6306803676686



Q.15 Consider the string given below made up of letters.

QAU YDIUYIGHKSEZJRTRBGD HMDIFA

How many vowels are there in the string?

- Ans
- ☒ 1. 5
  - ☒ 2. 8
  - ☒ 3. 4
  - ☒ 4. 6

Question ID : 630680937930  
Option 1 ID : 6306803676198  
Option 2 ID : 6306803676200  
Option 3 ID : 6306803676199  
Option 4 ID : 6306803676197

Q.16 Select that missing pair (Fifth letter cluster : Sixth letter cluster) which is related in the same way as the first letter cluster is related to the second letter cluster and third letter cluster is related to fourth letter cluster.

PTV : NRT :: GHK: EFI :: ?

- Ans
- ☒ 1. AHD : ZJC
  - ☒ 2. BCJ : DAL
  - ☒ 3. MON : PMQ
  - ☒ 4. DFI : BDG

Question ID : 630680937977  
Option 1 ID : 6306803676388  
Option 2 ID : 6306803676386  
Option 3 ID : 6306803676387  
Option 4 ID : 6306803676385

Q.17 By interchanging the given two signs and numbers which of the following equation will be correct?  
× and −, 4 and 2

- Ans
- ☒ 1.  $9 - 5 + 4 \times 2 - 3 = 3$
  - ☒ 2.  $7 \times 3 - 6 \div 2 + 4 = 0$
  - ☒ 3.  $7 - 5 \times 4 + 8 \div 2 = 35$
  - ☒ 4.  $8 \div 4 + 2 \times 3 - 9 = -17$

Question ID : 630680938112  
Option 1 ID : 6306803676928  
Option 2 ID : 6306803676926  
Option 3 ID : 6306803676925  
Option 4 ID : 6306803676927



Q.18 Consider the five three letter words given below and the answer the questions based on it.

(Left) MIG XAD YEN PUA BPC (Right)

If all the letters of each word are replaced by the next letter as per the English alphabetical order, then in how many newly formed words, there will be no vowel?

- Ans
- ☒ 1. 1
  - ☒ 2. 2
  - ☒ 3. 4
  - ☒ 4. 3

Question ID : 630680938050  
Option 1 ID : 6306803676677  
Option 2 ID : 6306803676678  
Option 3 ID : 6306803676680  
Option 4 ID : 6306803676679

Q.19 Arrange the given words in the sequence in which they occur in the dictionary.

1. Clip
2. Click
3. Clink
4. Climate
5. Cliff

- Ans
- ☒ 1. 13542
  - ☒ 2. 13524
  - ☒ 3. 25431
  - ☒ 4. 25413

Question ID : 630680937967  
Option 1 ID : 6306803676347  
Option 2 ID : 6306803676348  
Option 3 ID : 6306803676345  
Option 4 ID : 6306803676346

Q.20 If '+' means 'x', 'x' means '-', '-' means '÷' and '÷' means '+', then which of the following equation is correct?

- Ans
- ☒ 1.  $55 - 11 + 7 \times 9 \div 10 = 42$
  - ☒ 2.  $10 + 5 - 2 \times 14 \div 25 = 36$
  - ☒ 3.  $15 - 5 \times 8 + 9 \div 20 = -57$
  - ☒ 4.  $16 + 10 \div 5 \times 7 - 1 = 17$

Question ID : 630680938031  
Option 1 ID : 6306803676601  
Option 2 ID : 6306803676604  
Option 3 ID : 6306803676602  
Option 4 ID : 6306803676603

Q.1 A series is given with one term missing. Select the correct alternative from the given ones that will complete the series.

EA, GX, IU, KR, ?

- Ans
- ☒ 1. MP
  - ☒ 2. NP
  - ☒ 3. MO
  - ☒ 4. NO

Question ID : 630680938225  
Option 1 ID : 6306803677380  
Option 2 ID : 6306803677378  
Option 3 ID : 6306803677379  
Option 4 ID : 6306803677377

Q.2 In the following question, select the odd letter/letters from the given alternatives.

- Ans
- ☒ 1. YBD
  - ☒ 2. KNP
  - ☒ 3. JMP
  - ☒ 4. MPR

Question ID : 630680938220  
Option 1 ID : 6306803677357  
Option 2 ID : 6306803677359  
Option 3 ID : 6306803677360  
Option 4 ID : 6306803677358


Q.3 In the following question, group of letter clusters is given. The letter clusters of each group are related with the other letter clusters of the same group by some Logic/Rule/Relation. From the given alternatives, select the group of letter clusters which follows the same Logic/Rule/Relation.  
(FV, DU, BT)  
(AL, YK, WJ)


- Ans
- ☒ 1. (GN, EM, CL)
  - ☒ 2. (DT, CS, AR)
  - ☒ 3. (OK, MJ, JI)
  - ☒ 4. (ZQ, XP, UO)


Question ID : 630680937979  
Option 1 ID : 6306803676395  
Option 2 ID : 6306803676396  
Option 3 ID : 6306803676393  
Option 4 ID : 6306803676394


Q.4 In the following question, select the odd letter/letters from the given alternatives.

- Ans

 1. YAC

 2. IKM

 3. CEG

 4. RPN

Question ID : 630680938222

Option 1 ID : 6306803677365


Option 2 ID : 6306803677367


Option 3 ID : 6306803677366


Option 4 ID : 6306803677368


Q.5 6 teachers T, U, V, W, X and Y are sitting around a circular table facing towards the centre (not necessarily in the same order). U is fourth to the right of V. W is to the immediate right of U. T is the immediate neighbour of U and Y. What is the position of X with respect to W?

- Ans

 1. Second to the right

 2. Immediate right

 3. Third to the right

 4. Second to the left

Question ID : 630680938118

Option 1 ID : 6306803676950

Option 2 ID : 6306803676951

Option 3 ID : 6306803676952


Option 4 ID : 6306803676949

Q.6 Eight persons A, B, C, D, E, F, G and H live in an eight storied building, one on each floor but not necessarily in the same order. The lowermost floor is numbered 1, and the floor above it is numbered 2 and so on. Only two persons live below the floor on which G lives. Only one person lives between G and A. H lives on an odd numbered floor but not on floor number 7. Only two persons live between H and B. B does not live on the topmost floor. A does not live on the lowermost floor. D lives immediately below C. Neither D nor E lives on floor numbered 6. D lives on which floor number?

- Ans

 1. 6th

 2. 5th

 3. 2nd

 4. 7th

Question ID : 630680938083

Option 1 ID : 6306803676809

Option 2 ID : 6306803676812

Option 3 ID : 6306803676810

Option 4 ID : 6306803676811

**Q.7** In the following question below are given some statements followed by some conclusions based on those statements. Taking the given statements to be true even if they seem to be at variance from commonly known facts. Read all the conclusions and then decide which of the given conclusion logically follows the given statements.

**Statements:**

- I. All A are B.
- II. All B are C.
- III. Some C are D.

**Conclusion:**

- I. All B are D.
- II. Some D are A.
- III. All A are C.

- Ans**
- ☒ 1. Both conclusions I and III follows
  - ☒ 2. Only conclusion I follows
  - ☒ 3. Both conclusions II and III follows
  - ☒ 4. Only conclusion III follows

Question ID : 630680938055  
Option 1 ID : 6306803676698  
Option 2 ID : 6306803676697  
Option 3 ID : 6306803676700  
Option 4 ID : 6306803676699

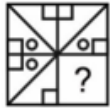
**Q.8** A series is given with one term missing. Select the correct alternative from the given ones that will complete the series.

SH, PK, MN, ?, GT

- Ans**
- ☒ 1. IP
  - ☒ 2. JQ
  - ☒ 3. HT
  - ☒ 4. LO

Question ID : 630680937985  
Option 1 ID : 6306803676420  
Option 2 ID : 6306803676417  
Option 3 ID : 6306803676419  
Option 4 ID : 6306803676418

Q.9 Which answer figure will complete the pattern in the question figure?



Ans

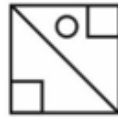
✗ 1.



✗ 2.



✓ 3.



✗ 4.



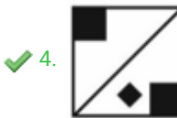
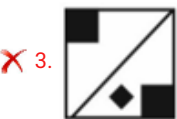
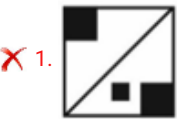
Question ID : 630680938067  
Option 1 ID : 6306803676748  
Option 2 ID : 6306803676747  
Option 3 ID : 6306803676745  
Option 4 ID : 6306803676746

Q.10

Which answer figure will complete the pattern in the question figure?



Ans



Question ID : 630680937987  
Option 1 ID : 6306803676426  
Option 2 ID : 6306803676427  
Option 3 ID : 6306803676425  
Option 4 ID : 6306803676428

Q.11 A series is given with one term missing. Select the correct alternative from the given ones that will complete the series.

LZ, NW, PT, RQ, ?

Ans

✓ 1. TN

✗ 2. TO

✗ 3. TP

✗ 4. SN

Question ID : 630680937945  
Option 1 ID : 6306803676258  
Option 2 ID : 6306803676257  
Option 3 ID : 6306803676259  
Option 4 ID : 6306803676260

Q.12 In the following question below are given some statements followed by some conclusions based on those statements. Taking the given statements to be true even if they seem to be at variance from commonly known facts. Read all the conclusions and then decide which of the given conclusion logically follows the given statements.

Statements:  
A. Some Z are Y.  
B. Some X are Y.  
C. Some A are X.




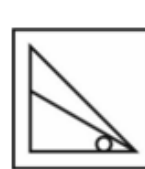
Conclusions:  
I. All Y are X.  
II. No A is Y.  
III. Some X are A.

- Ans ☒ 1. Only conclusion I follows  
☒ 2. Only conclusion III follows  
☒ 3. Only conclusion II follows  
☒ 4. Neither conclusion follows

Question ID : 630680938174  
Option 1 ID : 6306803677173  
Option 2 ID : 6306803677175  
Option 3 ID : 6306803677174  
Option 4 ID : 6306803677176

Q.13 In the following question, select the odd figure from the given alternatives.

Ans

- ☒ 1. 
- ☒ 2. 
- ☒ 3. 
- ☒ 4. 

Question ID : 630680937949  
Option 1 ID : 6306803676275  
Option 2 ID : 6306803676274  
Option 3 ID : 6306803676273  
Option 4 ID : 6306803676276



Q.14 Eight boys J, K, L, M, N, O, P and Q are sitting in a row facing towards south (not necessarily in the same order). O is fifth to the left of J. N is immediate left of J. M is fifth to the left of N. Q is third to the right of M. K is third to left of P. P is an immediate neighbour of J. Who is sitting immediate right of O?

- Ans
- ☐ 1. M
  - ☐ 2. P
  - ☐ 3. K
  - ☒ 4. L

Question ID : 630680938040  
Option 1 ID : 6306803676638  
Option 2 ID : 6306803676639  
Option 3 ID : 6306803676640  
Option 4 ID : 6306803676637

Q.15 Seven boxes Z1, Z2, Z3, Z4, Z5, Z6 and Z7 are placed one above the other. Only two boxes are placed above box Z4. Only one box is placed between box Z7 and Z4. As many as boxes are placed between box Z7 and Z5 as between box Z5 and Z1. Three boxes are placed between box Z2 and Z3. Z2 is placed above Z3. How many boxes are placed in between Z7 and Z5?

- Ans
- ☐ 1. 4
  - ☐ 2. 1
  - ☐ 3. 3
  - ☒ 4. 2

Question ID : 630680938082  
Option 1 ID : 6306803676808  
Option 2 ID : 6306803676805  
Option 3 ID : 6306803676807  
Option 4 ID : 6306803676806

Q.16 In a row of 63 goats, black goat is 32nd from the right end. What is its position from left end?

- Ans
- ☐ 1. 33rd
  - ☐ 2. 31st
  - ☐ 3. 34th
  - ☒ 4. 32nd

Question ID : 630680938001  
Option 1 ID : 6306803676481  
Option 2 ID : 6306803676482  
Option 3 ID : 6306803676483  
Option 4 ID : 6306803676484

Q.17 In the following question, four letter pairs are given. The letters on left side of (–) is related to the letters on the right side of (–) with some Logic/Rule/Relation. Three are similar on basis of same Logic/Rule/Relation. Select the odd one out from the given alternatives.

- Ans
- ☒ 1. RAT – TYG
  - ☒ 2. LVE – NTV
  - ☒ 3. BDQ – DBJ
  - ☒ 4. WHY – ZKD

Question ID : 630680937943  
Option 1 ID : 6306803676250  
Option 2 ID : 6306803676252  
Option 3 ID : 6306803676251  
Option 4 ID : 6306803676249

Q.18 Five persons A, B, C, D and E are sitting around a circular table facing towards the centre (not necessarily in the same order). C is an immediate neighbour of A and E. B is sitting second to the left of E. A is sitting second to the right of E. Who is sitting second to the left of C?

- Ans
- ☒ 1. A
  - ☒ 2. B
  - ☒ 3. E
  - ☒ 4. D

Question ID : 630680937999  
Option 1 ID : 6306803676474  
Option 2 ID : 6306803676475  
Option 3 ID : 6306803676473  
Option 4 ID : 6306803676476

Q.19 In the following question below are given some statements followed by some conclusions based on those statements. Taking the given statements to be true even if they seem to be at variance from commonly known facts. Read all the conclusions and then decide which of the given conclusion logically follows the given statements.

Statements:

- I. No P is Q.
- II. Some Q are R.
- III. Some R are S.

Conclusion:

- I. Some S are not P.
- II. No S are Q.
- III. Some R are not P.

- Ans
- ☒ 1. Only conclusion III follows
  - ☒ 2. Only conclusion II follows
  - ☒ 3. Only conclusion I follows
  - ☒ 4. Both conclusions I and II follows

Question ID : 630680937974  
Option 1 ID : 6306803676375  
Option 2 ID : 6306803676374  
Option 3 ID : 6306803676373  
Option 4 ID : 6306803676376

Q.20 In the following question, select the odd letter/letters from the given alternatives.

- Ans ☒ 1. FHG  
☒ 2. BDC  
☒ 3. ACD  
☒ 4. DFE

Question ID : 630680938182  
 Option 1 ID : 6306803677205  
 Option 2 ID : 6306803677207  
 Option 3 ID : 6306803677208  
 Option 4 ID : 6306803677206

Section : General Awareness 1

Q.1 Matsya Festival, Marwar Festival and Kajli Teej are associated with which of the following state of India?

- Ans ☒ 1. Madhya Pradesh  
☒ 2. Goa  
☒ 3. Bihar  
☒ 4. Rajasthan

Question ID : 630680939411  
 Option 1 ID : 6306803682067  
 Option 2 ID : 6306803682068  
 Option 3 ID : 6306803682070  
 Option 4 ID : 6306803682069

Q.2 Dimasa, Mishing and Karbi tribal languages are spoken in which of the following states of India?

- Ans ☒ 1. Madhya Pradesh  
☒ 2. Chhattisgarh  
☒ 3. Tripura  
☒ 4. Assam

Question ID : 630680939329  
 Option 1 ID : 6306803681742  
 Option 2 ID : 6306803681741  
 Option 3 ID : 6306803681739  
 Option 4 ID : 6306803681740

Q.3 Which of the following statements are CORRECT about the LVM3 launch vehicle of the Indian Space Research Organisation (ISRO)?

- I. LVM3 is the new heavy-lift launch vehicle for achieving a 4000 kg spacecraft launching capability to GTO (Geosynchronous Transfer Orbit).  
II. LVM3 is a four-stage launch vehicle consisting of two solid propellants.

- Ans ☒ 1. Only II  
☒ 2. Both I and II  
☒ 3. Neither I nor II  
☒ 4. Only I

Question ID : 630680939359  
Option 1 ID : 6306803681860  
Option 2 ID : 6306803681861  
Option 3 ID : 6306803681862  
Option 4 ID : 6306803681859

Q.4 What is generally used in the kitchen for making crispy pakoras?

- Ans ☒ 1. Bleaching powder  
☒ 2. Milk of Magnesia  
☒ 3. Washing Soda  
☒ 4. Baking Soda

Question ID : 630680939387  
Option 1 ID : 6306803681972  
Option 2 ID : 6306803681971  
Option 3 ID : 6306803681973  
Option 4 ID : 6306803681974

Q.5 Which of the following literary works narrates a tale of love of a poor brahmin Charudatta for a courtesan Vasantasena?

- Ans ☒ 1. Mudrarakshasa  
☒ 2. Mrcchakatika  
☒ 3. Svapnavasavadatta  
☒ 4. Mahaviracharita

Question ID : 630680939328  
Option 1 ID : 6306803681735  
Option 2 ID : 6306803681737  
Option 3 ID : 6306803681738  
Option 4 ID : 6306803681736

Q.6 South Asian Youth Table Tennis Championship 2023 was held in which city of India?

- Ans ☒ 1. Itanagar  
☒ 2. Noida  
☒ 3. Chennai  
☒ 4. Bhopal

Question ID : 630680939431  
Option 1 ID : 6306803682149  
Option 2 ID : 6306803682147  
Option 3 ID : 6306803682150  
Option 4 ID : 6306803682148

Q.7 In April 2023, the National Institute of Mental Health and Neurosciences and Ashraya Hasta Trust signed an MoU to test the feasibility of a model comprehensive rural mental health programme named \_\_\_\_\_.

- Ans
- ☒ 1. YUVIKA
  - ☒ 2. VAIBHAV
  - ☒ 3. NAMAN
  - ☒ 4. Naya Savera

Question ID : 630680939398  
Option 1 ID : 6306803682015  
Option 2 ID : 6306803682017  
Option 3 ID : 6306803682018  
Option 4 ID : 6306803682016

Q.8 "Samarth" (Capacity Building Scheme in Textile Sector) scheme of the Ministry of Textiles is operational till which of the following years?

- Ans
- ☒ 1. June 2027
  - ☒ 2. March 2028
  - ☒ 3. March 2024
  - ☒ 4. April 2025

Question ID : 630680939474  
Option 1 ID : 6306803682321  
Option 2 ID : 6306803682322  
Option 3 ID : 6306803682319  
Option 4 ID : 6306803682320

Q.9 Which of the following languages is NOT spoken in Meghalaya?

- Ans
- ☒ 1. Khasi
  - ☒ 2. Tulu
  - ☒ 3. Garo
  - ☒ 4. Jaintia

Question ID : 630680939450  
Option 1 ID : 6306803682224  
Option 2 ID : 6306803682226  
Option 3 ID : 6306803682223  
Option 4 ID : 6306803682225

Q.10 Which of the following Ministries organized Sangathan Se Samridhi Abhiyaan across the country in 2023 for implementing Deendayal Antyodaya Yojana – National Rural Livelihoods Mission?

- Ans
- ☒ 1. Ministry of Social Justice and Empowerment
  - ☒ 2. Ministry of Women and Child Development
  - ☒ 3. Ministry of Health and Family Welfare
  - ☒ 4. Ministry of Rural Development

Question ID : 630680939315  
Option 1 ID : 6306803681683  
Option 2 ID : 6306803681684  
Option 3 ID : 6306803681685  
Option 4 ID : 6306803681686

Q.11 Which mammalian species was found in Kaziranga National Park and Tiger Reserve, Assam in January 2024?

- I. Binturong  
II. Small-clawed otter

Ans ☒ 1. Neither I nor II  
☒ 2. Only II  
☒ 3. Both I and II  
☒ 4. Only I

Question ID : 630680939593  
Option 1 ID : 6306803682798  
Option 2 ID : 6306803682796  
Option 3 ID : 6306803682797  
Option 4 ID : 6306803682795

Q.12 Cycas pectinata is listed as which of the following in the International Union for Conservation of Nature's Red List, as of April 2023?

Ans ☒ 1. vulnerable  
☒ 2. Endangered  
☒ 3. Least Concern  
☒ 4. Extinct

Question ID : 630680939432  
Option 1 ID : 6306803682151  
Option 2 ID : 6306803682153  
Option 3 ID : 6306803682152  
Option 4 ID : 6306803682154

Q.13 In June 2023, Nusrat Chaudhary became the first Muslim woman federal judge of which country?

Ans ☒ 1. United states of America  
☒ 2. China  
☒ 3. Canada  
☒ 4. Saudi Arab

Question ID : 630680939430  
Option 1 ID : 6306803682146  
Option 2 ID : 6306803682145  
Option 3 ID : 6306803682144  
Option 4 ID : 6306803682143

Q.14 Who was the first to identify DNA as an acidic substance present in the nucleus?

Ans ☒ 1. Friedrich Meischer  
☒ 2. Carl Linnaeus  
☒ 3. Edward Jenner  
☒ 4. Rosalind Franklin

Question ID : 630680939384  
Option 1 ID : 6306803681959  
Option 2 ID : 6306803681960  
Option 3 ID : 6306803681962  
Option 4 ID : 6306803681961

Q.15 National Mission in Interdisciplinary Cyber Physical Systems (NM-ICPS) was launched in which of the following years?

- Ans
- ☐ 1. 2022
  - ☐ 2. 2020
  - ☐ 3. 2015
  - ☒ 4. 2018

Question ID : 630680939397  
Option 1 ID : 6306803682014  
Option 2 ID : 6306803682013  
Option 3 ID : 6306803682011  
Option 4 ID : 6306803682012

Q.16 G. Sankara Kurup received the Jnanpith Award in 1965 for which of the following literary works?

- Ans
- ☐ 1. Kayar
  - ☐ 2. Oru Desathinte Katha
  - ☐ 3. Varshakala Katha
  - ☒ 4. Odakkuzhal

Question ID : 630680939327  
Option 1 ID : 6306803681733  
Option 2 ID : 6306803681732  
Option 3 ID : 6306803681734  
Option 4 ID : 6306803681731

Q.17 In which year was the Skill Acquisition and Knowledge Awareness for Livelihood Promotion (SANKALP) programme launched in India?

- Ans
- ☐ 1. 2014
  - ☐ 2. 2016
  - ☒ 3. 2018
  - ☐ 4. 2022

Question ID : 630680939396  
Option 1 ID : 6306803682007  
Option 2 ID : 6306803682008  
Option 3 ID : 6306803682009  
Option 4 ID : 6306803682010

Q.18 Which of the following is a major religious festival of the Jaintia tribe of Meghalaya?

- Ans
- ☐ 1. Ka Shad Suk Mynsiem
  - ☐ 2. Baisagu
  - ☒ 3. Beh-dien-khlam
  - ☐ 4. Puttari

Question ID : 630680939332  
Option 1 ID : 6306803681751  
Option 2 ID : 6306803681752  
Option 3 ID : 6306803681753  
Option 4 ID : 6306803681754



Q.19 Which of the following nuclear power plants is located in Tamil Nadu?

- Ans
- ☐ 1. Tarapur
  - ☐ 2. Kota
  - ☒ 3. Kalpakkam
  - ☐ 4. Narora

Question ID : 630680939549  
Option 1 ID : 6306803682619  
Option 2 ID : 6306803682622  
Option 3 ID : 6306803682621  
Option 4 ID : 6306803682620

Q.20 In which year did Dr. C. V. Raman discover the Raman scattering phenomenon?

- Ans
- ☐ 1. 1920
  - ☐ 2. 1901
  - ☐ 3. 1911
  - ☒ 4. 1928

Question ID : 630680939349  
Option 1 ID : 6306803681821  
Option 2 ID : 6306803681819  
Option 3 ID : 6306803681820  
Option 4 ID : 6306803681822

Section : General Awareness 2

Q.1 Which of the following means cases that can be directly considered by the Supreme Court without going to the lower courts before that?

- Ans
- ☐ 1. Advisory Jurisdiction
  - ☐ 2. Writ Jurisdiction
  - ☒ 3. Original Jurisdiction
  - ☐ 4. Appellate Jurisdiction

Question ID : 630680939582  
Option 1 ID : 6306803682754  
Option 2 ID : 6306803682753  
Option 3 ID : 6306803682752  
Option 4 ID : 6306803682751

Q.2 The Satluj originates in the '\_\_\_\_\_' near Mansarovar.

- Ans
- ☐ 1. Verinag
  - ☒ 2. Rakshas tal
  - ☐ 3. Chemayungdung
  - ☐ 4. Bokhar Chu

Question ID : 630680939614  
Option 1 ID : 6306803682879  
Option 2 ID : 6306803682882  
Option 3 ID : 6306803682881  
Option 4 ID : 6306803682880

Q.3 In which of the following years was Krishak Bharati Cooperative Limited (KRIBHCO) established?

- Ans ☒ 1. 1980  
☒ 2. 2004  
☒ 3. 1969  
☒ 4. 1988

Question ID : 630680939441  
 Option 1 ID : 6306803682188  
 Option 2 ID : 6306803682190  
 Option 3 ID : 6306803682187  
 Option 4 ID : 6306803682189

Q.4 Which of the following regions is NOT a high rainfall area of India?

- Ans ☒ 1. Deccan Plateau  
☒ 2. Western Ghats  
☒ 3. Hills of Meghalaya  
☒ 4. Sub-Himalayan areas in the northeast

Question ID : 630680939376  
 Option 1 ID : 6306803681928  
 Option 2 ID : 6306803681927  
 Option 3 ID : 6306803681930  
 Option 4 ID : 6306803681929

Q.5 Which of the following statement is correct about Peninsular Plateau?

- I. It was formed due to the breaking and drifting of the Gondwana land.  
 II. The Peninsular plateau is a tableland composed of the old crystalline, igneous and metamorphic rocks.

- Ans ☒ 1. Only I  
☒ 2. Neither I nor II  
☒ 3. Both I and II  
☒ 4. Only II

Question ID : 630680939533  
 Option 1 ID : 6306803682555  
 Option 2 ID : 6306803682558  
 Option 3 ID : 6306803682557  
 Option 4 ID : 6306803682556

Q.6 The Battle of Plassey was fought in year \_\_\_\_.

- Ans ☒ 1. 1764  
☒ 2. 1757  
☒ 3. 1767  
☒ 4. 1754

Question ID : 630680939364  
 Option 1 ID : 6306803681881  
 Option 2 ID : 6306803681880  
 Option 3 ID : 6306803681882  
 Option 4 ID : 6306803681879

Q.7 What was the male-female gap in literacy rate according to 2011 census?

- Ans ☒ 1. 16.3  
☒ 2. 26.6  
☒ 3. 24.8  
☒ 4. 21.7

Question ID : 630680939538  
 Option 1 ID : 6306803682578  
 Option 2 ID : 6306803682575  
 Option 3 ID : 6306803682576  
 Option 4 ID : 6306803682577

Q.8 In which of the following years India's population growth rate was negative?

- Ans ☒ 1. 1931-41  
☒ 2. 1891-1901  
☒ 3. 1911-21  
☒ 4. 1961-71

Question ID : 630680939457  
 Option 1 ID : 6306803682253  
 Option 2 ID : 6306803682251  
 Option 3 ID : 6306803682252  
 Option 4 ID : 6306803682254

Q.9 The words "Socialist, Secular" was added to the Constitution of India by which of the following amendment act?

- Ans ☒ 1. Forty fifth constitutional Amendment Act  
☒ 2. Forty Second constitutional Amendment Act  
☒ 3. Sixtieth constitutional Amendment Act  
☒ 4. Fifty second constitutional Amendment Act

Question ID : 630680939499  
 Option 1 ID : 6306803682420  
 Option 2 ID : 6306803682419  
 Option 3 ID : 6306803682422  
 Option 4 ID : 6306803682421

Q.10 What is the function of Phosphorus in human body?

- Ans ☒ 1. Metabolic control of hormone  
☒ 2. Maintenance of normal water balance  
☒ 3. Formation of bones and teeth  
☒ 4. Formation of haemoglobin

Question ID : 630680939546  
 Option 1 ID : 6306803682608  
 Option 2 ID : 6306803682609  
 Option 3 ID : 6306803682610  
 Option 4 ID : 6306803682607

Q.11 Who among the following was the ruler of Delhi during the period 1324–1351?

- Ans ☒ 1. Ghiyasuddin Tughluq  
☒ 2. Ghiyasuddin Balban  
☒ 3. Firuz Shah Tughluq  
☒ 4. Muhammad Tughluq

Question ID : 630680939525  
 Option 1 ID : 6306803682523  
 Option 2 ID : 6306803682525  
 Option 3 ID : 6306803682526  
 Option 4 ID : 6306803682524

Q.12 The relation between the consumer's optimal choice of the quantity of a good and its price is called the \_\_\_\_\_.

- Ans ☒ 1. expenditure  
☒ 2. demand function  
☒ 3. substitution effect  
☒ 4. elasticity

Question ID : 630680939442  
 Option 1 ID : 6306803682194  
 Option 2 ID : 6306803682191  
 Option 3 ID : 6306803682192  
 Option 4 ID : 6306803682193

Q.13 Which of the following is NOT a feature of the Indian Constitution?

- Ans ☒ 1. Presidential form of government  
☒ 2. Separation of powers  
☒ 3. Parliamentary form of government  
☒ 4. Fundamental rights

Question ID : 630680939380  
 Option 1 ID : 6306803681943  
 Option 2 ID : 6306803681944  
 Option 3 ID : 6306803681945  
 Option 4 ID : 6306803681946

Q.14 In which year was the Fiscal Responsibility and Budget Management (FRBM) Act enacted?

- Ans ☒ 1. 2018  
☒ 2. 2013  
☒ 3. 2003  
☒ 4. 2008

Question ID : 630680939402  
 Option 1 ID : 6306803682034  
 Option 2 ID : 6306803682033  
 Option 3 ID : 6306803682031  
 Option 4 ID : 6306803682032

Q.15 Which Article of the Indian Constitution deals with the appointment of ad hoc judges?

- Ans
 



1. Article 123



2. Article 148



3. Article 127



4. Article 111

Question ID : 630680939343  
 Option 1 ID : 6306803681796  
 Option 2 ID : 6306803681798  
 Option 3 ID : 6306803681797  
 Option 4 ID : 6306803681795

Q.16 In which Article of the Indian Constitution there is a provision for "Advocate General for the State"?

- Ans
 



1. Article 280



2. Article 213



3. Article 165




4. Article 76

Question ID : 630680939422  
 Option 1 ID : 6306803682114  
 Option 2 ID : 6306803682113  
 Option 3 ID : 6306803682112  
 Option 4 ID : 6306803682111

Q.17 The process of copying genetic information from one strand of the DNA into RNA is termed as \_\_\_\_\_.

- Ans
 



1. Translation



2. Transcription



3. Replication



4. Genetic code

Question ID : 630680939584  
 Option 1 ID : 6306803682761  
 Option 2 ID : 6306803682760  
 Option 3 ID : 6306803682759  
 Option 4 ID : 6306803682762

Q.18 Who among the following was the ruler of Delhi during the period 1206–1210?

- Ans
 



1. Ghiyasuddin Balban



2. Jalaluddin Khalji



3. Qutbuddin Aybak



4. Shamsuddin Iltutmish

Question ID : 630680939365  
 Option 1 ID : 6306803681885  
 Option 2 ID : 6306803681886  
 Option 3 ID : 6306803681883  
 Option 4 ID : 6306803681884

Q.19 Which of the following states experiences the onset of the southwest monsoon around 1st June?

- Ans
- ☐ 1. Tamil Nadu
  - ☐ 2. Gujarat
  - ☒ 3. Kerala
  - ☐ 4. Punjab

Question ID : 630680939336  
Option 1 ID : 6306803681767  
Option 2 ID : 6306803681769  
Option 3 ID : 6306803681768  
Option 4 ID : 6306803681770

Q.20 Who was the founder of Arya Samaj?

- Ans
- ☐ 1. Raja Rammohun Roy
  - ☐ 2. Ishwar Chandra Vidyasagar
  - ☒ 3. Swami Dayanand Saraswati
  - ☐ 4. Swami Vivekananda

Question ID : 630680939363  
Option 1 ID : 6306803681876  
Option 2 ID : 6306803681877  
Option 3 ID : 6306803681875  
Option 4 ID : 6306803681878

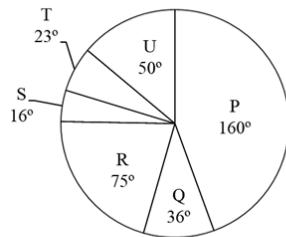
Section : Arithmetical and Numerical Ability 1

Q.1 Among  $\frac{1}{2}$ ,  $\frac{2}{3}$ ,  $\frac{4}{7}$  and  $\frac{3}{8}$ , how many of these fractions lie between  $\frac{1}{4}$  and  $\frac{2}{5}$ ?

- Ans
- ☐ 1. 0
  - ☐ 2. 4
  - ☒ 3. 1
  - ☐ 4. 2

Question ID : 630680937786  
Option 1 ID : 6306803675625  
Option 2 ID : 6306803675626  
Option 3 ID : 6306803675628  
Option 4 ID : 6306803675627

**Q.2** The pie chart given below gives the prices of 6 different articles as shares of the total price of these items in terms of the sectoral angles shown. The total price of all these 6 articles is Rs. 5400.



$J_1$  = Average price of P, Q, S and U.

$J_2$  = The difference between the prices of R and T.

What is the value (in Rs.) of  $(J_1 - J_2)$ ?

- Ans**
- ☒ 1. 212.50
  - ☒ 2. 202.50
  - ☒ 3. 195.50
  - ☒ 4. 184.50

Question ID : 630680937501  
Option 1 ID : 6306803674487  
Option 2 ID : 6306803674488  
Option 3 ID : 6306803674485  
Option 4 ID : 6306803674486

**Q.3** The average present age of Rustam and Preetam is 38 years. The average present age of Preetam and Geetam is 28 years. The average present age of Rustam and Geetam is 34 years. What will be the age of the youngest of the three after 5 years?

- Ans**
- ☒ 1. 33 years
  - ☒ 2. 27 years
  - ☒ 3. 29 years
  - ☒ 4. 24 years

Question ID : 630680937533  
Option 1 ID : 6306803674614  
Option 2 ID : 6306803674616  
Option 3 ID : 6306803674613  
Option 4 ID : 6306803674615

**Q.4** The present value of a car is Rs. 420000. Its value is depreciating by 15 percent of its present value each year. What will its value be 2 years from now?

- Ans**
- ☒ 1. Rs. 202450
  - ☒ 2. Rs. 353450
  - ☒ 3. Rs. 342450
  - ☒ 4. Rs. 303450

Question ID : 630680937616  
Option 1 ID : 6306803674947  
Option 2 ID : 6306803674948  
Option 3 ID : 6306803674945  
Option 4 ID : 6306803674946



Q.5 Which of the following number is divisible by 6?

- Ans
- ☒ 1. 1288
  - ☒ 2. 1652
  - ☒ 3. 7624
  - ☒ 4. 5196

Question ID : 630680937743  
Option 1 ID : 6306803675456  
Option 2 ID : 6306803675454  
Option 3 ID : 6306803675453  
Option 4 ID : 6306803675455

Q.6 What will be the difference between compound interest (compounding annually) and simple interest for 3 years on a principal of Rs. 12000 at the rate of 10 percent per annum?

- Ans
- ☒ 1. Rs. 402
  - ☒ 2. Rs. 352
  - ☒ 3. Rs. 392
  - ☒ 4. Rs. 372

Question ID : 630680937657  
Option 1 ID : 6306803675110  
Option 2 ID : 6306803675109  
Option 3 ID : 6306803675112  
Option 4 ID : 6306803675111

Q.7 What is the positive square root of  $36 + 18\sqrt{3}$ ?

- Ans
- ☒ 1.  $2 + 5\sqrt{3}$
  - ☒ 2.  $3 + 3\sqrt{3}$
  - ☒ 3.  $5 + \sqrt{3}$
  - ☒ 4.  $1 + 5\sqrt{3}$

Question ID : 630680937627  
Option 1 ID : 6306803674989  
Option 2 ID : 6306803674990  
Option 3 ID : 6306803674991  
Option 4 ID : 6306803674992

Q.8 If  $22a + 22b = 484$ , then what is the average of  $a$  and  $b$ ?

- Ans
- ✓ 1. 11
  - ✗ 2. 12
  - ✗ 3. 13.5
  - ✗ 4. 14

Question ID : 630680937771  
Option 1 ID : 6306803675568  
Option 2 ID : 6306803675567  
Option 3 ID : 6306803675566  
Option 4 ID : 6306803675565

Q.9 The table given below shows the expenditure (in ₹) on rent and travel of 6 persons in 1 month.

Persons	Expenditure	
	Rent	Travel
A	5000	3600
B	6500	3800
C	5500	3200
D	7000	3550
E	6500	2800
F	6300	3300

What is the ratio of expenditure on rent to expenditure on travel by all persons?

- Ans
- ✗ 1. 962 : 315
  - ✓ 2. 736 : 405
  - ✗ 3. 746 : 405
  - ✗ 4. 692 : 395

Question ID : 630680937698  
Option 1 ID : 6306803675276  
Option 2 ID : 6306803675275  
Option 3 ID : 6306803675273  
Option 4 ID : 6306803675274

Q.10 If 30 percent of  $Q$  is added to 10 percent of  $R$ , then the resultant comes as 40 percent of  $R$ .  $Q$  is what percentage of  $R$ ?

- Ans
- ✗ 1. 10 percent
  - ✗ 2. 110 percent
  - ✗ 3. 11 percent
  - ✓ 4. 100 percent

Question ID : 630680937748  
Option 1 ID : 6306803675473  
Option 2 ID : 6306803675474  
Option 3 ID : 6306803675475  
Option 4 ID : 6306803675476

**Q.11** The marked price of a car is 'Rs 550000. Rahul buys that car after two successive discounts of 10 percent and 30 percent. If he sells the car for Rs. 360000, then what is the profit percentage? [Give your answer correct to two places of decimal.]

- Ans**
- ☒ 1. 5.65 percent
  - ☒ 2. 4.87 percent
  - ☒ 3. 2.85 percent
  - ☒ 4. 3.90 percent

Question ID : 630680937555  
Option 1 ID : 6306803674703  
Option 2 ID : 6306803674701  
Option 3 ID : 6306803674704  
Option 4 ID : 6306803674702

**Q.12** What is the Least Common Multiple of  $\frac{8}{7}$ ,  $\frac{16}{49}$  and  $\frac{32}{21}$ ?

- Ans**
- ☒ 1.  $\frac{8}{49}$
  - ☒ 2.  $\frac{32}{7}$
  - ☒ 3.  $\frac{16}{49}$
  - ☒ 4.  $\frac{64}{21}$

Question ID : 630680937585  
Option 1 ID : 6306803674823  
Option 2 ID : 6306803674821  
Option 3 ID : 6306803674824  
Option 4 ID : 6306803674822

**Q.13** The table given below shows the number of tables sold by 5 shops.

Shops	Tables
S1	63
S2	68
S3	96
S4	105
S5	78

What is the average of the number of tables sold by shop S1, S2 and S3? [Give your answer correct to two places of decimal.]

- Ans**
- ☒ 1. 75.17
  - ☒ 2. 75.67
  - ☒ 3. 77.33
  - ☒ 4. 74.23

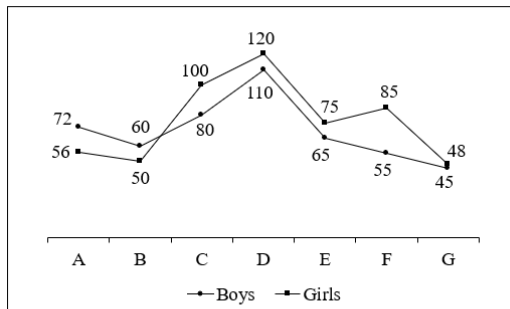
Question ID : 630680937618  
 Option 1 ID : 6306803674955  
 Option 2 ID : 6306803674953  
 Option 3 ID : 6306803674956  
 Option 4 ID : 6306803674954

**Q.14** The marked price of an article is Rs. 2600. If a discount of 38 percent is given, then what is the selling price of the article?

- Ans**
- ☒ 1. Rs. 1562
  - ☒ 2. Rs. 1612
  - ☒ 3. Rs. 1742
  - ☒ 4. Rs. 1652

Question ID : 630680937514  
 Option 1 ID : 6306803674537  
 Option 2 ID : 6306803674540  
 Option 3 ID : 6306803674538  
 Option 4 ID : 6306803674539

Q.15 The line chart given below shows the numbers of boys and girls in 7 different schools.



P1 = The absolute difference between the average number of boys in A and B and the average number of girls in E and F.

P2 = The total number of boys in all the schools.

What is the value of  $(P1 + P2)$ ?

- Ans
- ☒ 1. 427
  - ☒ 2. 487
  - ☒ 3. 514
  - ☒ 4. 501

Question ID : 630680937500  
Option 1 ID : 6306803674482  
Option 2 ID : 6306803674481  
Option 3 ID : 6306803674483  
Option 4 ID : 6306803674484

Q.16 The initial ratio of income and expenditure of Tarun is 14 : 9 respectively. His income is increased by 10 percent and expenditure is increased by 20 percent. If his new savings is `Rs. 23000, then what was the initial income of Tarun?

- Ans
- ☒ 1. Rs. 28000
  - ☒ 2. Rs. 84000
  - ☒ 3. Rs. 56000
  - ☒ 4. Rs. 70000

Question ID : 630680937551  
Option 1 ID : 6306803674688  
Option 2 ID : 6306803674687  
Option 3 ID : 6306803674685  
Option 4 ID : 6306803674686

Q.17 Out of two numbers, 87.5 percent of the smaller number is equal to 37.5 percent of the larger number. If the sum of both the numbers is 1100, then what is the value of the larger number?

- Ans
- ☒ 1. 760
  - ☒ 2. 750
  - ☒ 3. 770
  - ☒ 4. 710

Question ID : 630680937549  
Option 1 ID : 6306803674678  
Option 2 ID : 6306803674677  
Option 3 ID : 6306803674679  
Option 4 ID : 6306803674680

Q.18 Which of the following numbers is NOT divisible by 4?

- Ans
- ☒ 1. 7524
  - ☒ 2. 9614
  - ☒ 3. 5128
  - ☒ 4. 1588

Question ID : 630680937545  
Option 1 ID : 6306803674663  
Option 2 ID : 6306803674662  
Option 3 ID : 6306803674664  
Option 4 ID : 6306803674661

Q.19 What is the average of prime numbers between 51 and 75?

- Ans
- ☒ 1. 68
  - ☒ 2. 62
  - ☒ 3. 67
  - ☒ 4. 64

Question ID : 630680937692  
Option 1 ID : 6306803675249  
Option 2 ID : 6306803675252  
Option 3 ID : 6306803675250  
Option 4 ID : 6306803675251

Q.20 What is the value of  $0.00004 + 0.4 + 0.04 + 0.004$ ?

- Ans
- ☒ 1. 0.00444
  - ☒ 2. 0.33440
  - ☒ 3. 0.84324
  - ☒ 4. 0.44404

Question ID : 630680937704  
Option 1 ID : 6306803675298  
Option 2 ID : 6306803675299  
Option 3 ID : 6306803675300  
Option 4 ID : 6306803675297

**Q.1** Rohan spends some part of his income and saves the remaining part. The respective ratio of his expenditure and saving is 4 : 5. If Rohan's income is ₹ 72000, then what will be his expenditure?

- Ans**
- ✓ 1. ₹ 32000
  - ✗ 2. ₹ 16000
  - ✗ 3. ₹ 40000
  - ✗ 4. ₹ 24000

Question ID : 630680937798  
Option 1 ID : 6306803675676  
Option 2 ID : 6306803675673  
Option 3 ID : 6306803675674  
Option 4 ID : 6306803675675

**Q.2** A miniature model of a square park has sides of length 7 cm, and a 2 cm wide path inside it running along its boundary. What is the area of the path in the model?

- Ans**
- ✓ 1. 24 cm<sup>2</sup>
  - ✗ 2. 72 cm<sup>2</sup>
  - ✗ 3. 35 cm<sup>2</sup>
  - ✗ 4. 96 cm<sup>2</sup>

Question ID : 630680937568  
Option 1 ID : 6306803674754  
Option 2 ID : 6306803674755  
Option 3 ID : 6306803674753  
Option 4 ID : 6306803674756

**Q.3** A bus travels  $\frac{2}{7}$  of its total journey at its usual speed. The remaining distance is covered by the bus at  $\frac{1}{3}$ rd of its usual speed. Due to the slower speed it reaches its destination 240 minutes late. If the total distance of its journey is 210 km, then what is the usual speed of the bus?

- Ans**
- ✓ 1. 75 km/hr
  - ✗ 2. 90 km/hr
  - ✗ 3. 60 km/hr
  - ✗ 4. 85 km/hr

Question ID : 630680937644  
Option 1 ID : 6306803675057  
Option 2 ID : 6306803675060  
Option 3 ID : 6306803675059  
Option 4 ID : 6306803675058



- Q.4** A alone can do a work in 34.4 days. B is 15 percent more efficient than A. C is 20 percent less efficient than B. Which of the following statement(s) is/are correct?  
**I.** B alone can do the same work in 28 days.  
**II.** B and C together can do the same work in  $70/3$  days.

**Ans** ☒ 1. Only II  
☒ 2. Both I and II  
☒ 3. Neither I nor II  
☒ 4. Only I

Question ID : 630680937721  
Option 1 ID : 6306803675366  
Option 2 ID : 6306803675367  
Option 3 ID : 6306803675368  
Option 4 ID : 6306803675365

- Q.5** M, N and O started a partnership investing Rs. 20000, Rs. 20000 and Rs. 30000 respectively. They stayed in partnership for 5 years, 6 years and 3 years respectively. If N's share in the total profit was Rs. 6000, then what was the total profit?

**Ans** ☒ 1. Rs. 15500  
☒ 2. Rs. 14200  
☒ 3. Rs. 12600  
☒ 4. Rs. 15400

Question ID : 630680937679  
Option 1 ID : 6306803675198  
Option 2 ID : 6306803675200  
Option 3 ID : 6306803675197  
Option 4 ID : 6306803675199

- Q.6** The areas of a square and a rectangle are equal. The length of the rectangle is 8 cm more than the side of the square and its breadth is 4 cm less than the side of the square. What is the perimeter of the rectangle?

**Ans** ☒ 1. 40 cm  
☒ 2. 52 cm  
☒ 3. 32 cm  
☒ 4. 26 cm

Question ID : 630680937529  
Option 1 ID : 6306803674600  
Option 2 ID : 6306803674598  
Option 3 ID : 6306803674599  
Option 4 ID : 6306803674597

**Q.7** A person borrows some money for 10 years at a certain rate of simple interest. If the respective ratio of principal and total interest is 5 : 1, then what is the annual rate of interest?

- Ans**
- ☒ 1. 4.5 percent
  - ☒ 2. 2.5 percent
  - ☒ 3. 2 percent
  - ☒ 4. 4 percent

Question ID : 630680937614  
Option 1 ID : 6306803674937  
Option 2 ID : 6306803674938  
Option 3 ID : 6306803674940  
Option 4 ID : 6306803674939

**Q.8** The length of one of the diagonals of a quadrilateral is 24 cm. The lengths of the perpendiculars drawn on this diagonal from the other two vertices are 6 cm and 14 cm respectively. What is the area of the quadrilateral?

- Ans**
- ☒ 1. 260 cm<sup>2</sup>
  - ☒ 2. 180 cm<sup>2</sup>
  - ☒ 3. 240 cm<sup>2</sup>
  - ☒ 4. 120 cm<sup>2</sup>

Question ID : 630680937530  
Option 1 ID : 6306803674601  
Option 2 ID : 6306803674604  
Option 3 ID : 6306803674603  
Option 4 ID : 6306803674602

**Q.9** The radius of a sphere is 5.6 cm. What is the total surface area of the sphere? (Use  $\pi = \frac{22}{7}$ )

- Ans**
- ☒ 1. 352.96 cm<sup>2</sup>
  - ☒ 2. 412.36 cm<sup>2</sup>
  - ☒ 3. 394.24 cm<sup>2</sup>
  - ☒ 4. 378.48 cm<sup>2</sup>

Question ID : 630680937726  
Option 1 ID : 6306803675385  
Option 2 ID : 6306803675388  
Option 3 ID : 6306803675387  
Option 4 ID : 6306803675386

**Q.10** A train crosses a standing pole in 25 seconds and a 540 m long platform in 55 seconds. What are, respectively, the length and the speed of the train?

- Ans**
- ☐ 1. 400 metres, 24 m/s
  - ☐ 2. 500 metres, 20 m/s
  - ☐ 3. 380 metres, 30 m/s
  - ☒ 4. 450 metres, 18 m/s

Question ID : 630680937603  
Option 1 ID : 6306803674894  
Option 2 ID : 6306803674896  
Option 3 ID : 6306803674893  
Option 4 ID : 6306803674895

**Q.11** If the speed of a boat in still water is 19 km/hr and the speed of the stream is 6 km/hr, then what are respectively the upstream and the downstream speeds of the boat?

- Ans**
- ☐ 1. 12 km/hr, 24 km/hr
  - ☐ 2. 8 km/hr, 17 km/hr
  - ☒ 3. 13 km/hr, 25 km/hr
  - ☐ 4. 15 km/hr, 25 km/hr

Question ID : 630680937562  
Option 1 ID : 6306803674729  
Option 2 ID : 6306803674732  
Option 3 ID : 6306803674731  
Option 4 ID : 6306803674730

**Q.12** A sum of ₹ 9000 becomes ₹ 10250 in 5 years at simple interest. If the rate of interest becomes 3 times of itself, then how much this sum will become in these 5 years?

- Ans**
- ☐ 1. ₹ 12900
  - ☒ 2. ₹ 12750
  - ☐ 3. ₹ 11250
  - ☐ 4. ₹ 13200

Question ID : 630680937774  
Option 1 ID : 6306803675577  
Option 2 ID : 6306803675579  
Option 3 ID : 6306803675580  
Option 4 ID : 6306803675578

**Q.13** If a person earns  $9\frac{1}{11}$  percent profit on the selling price of an item, then what will be his profit percentage on the cost price of the item?

- Ans**
- ☒ 1. 11.11 percent
  - ☒ 2. 10 percent
  - ☒ 3. 33.33 percent
  - ☒ 4. 12.5 percent

Question ID : 630680937592  
Option 1 ID : 6306803674852  
Option 2 ID : 6306803674850  
Option 3 ID : 6306803674849  
Option 4 ID : 6306803674851

**Q.14** Amit alone can do  $\frac{3}{5}$  of a piece of work in 3 hours. Sumit alone can do  $\frac{3}{10}$  of the same work in 6 hours. If they work together, then how many hours will they take to complete  $\frac{3}{5}$  of the same work?

- Ans**
- ☒ 1. 3.6 hours
  - ☒ 2. 2.8 hours
  - ☒ 3. 2.5 hours
  - ☒ 4. 2.4 hours

Question ID : 630680937640  
Option 1 ID : 6306803675041  
Option 2 ID : 6306803675043  
Option 3 ID : 6306803675044  
Option 4 ID : 6306803675042

**Q.15** If  $R : S = 7 : 2$ , then what is the value of  $(R - S) : (R + S)$ ?

- Ans**
- ☒ 1. 5 : 8
  - ☒ 2. 5 : 9
  - ☒ 3. 5 : 11
  - ☒ 4. 5 : 7

Question ID : 630680937517  
Option 1 ID : 6306803674552  
Option 2 ID : 6306803674550  
Option 3 ID : 6306803674549  
Option 4 ID : 6306803674551

**Q.16** The sum of the length and breadth of a cuboid is 10 cm. If the height of the cuboid is twice of the sum of its length and breadth, then what is the lateral surface area of the cuboid?

- Ans
- ✓ 1.  $400 \text{ cm}^2$
  - ✗ 2.  $600 \text{ cm}^2$
  - ✗ 3.  $500 \text{ cm}^2$
  - ✗ 4.  $300 \text{ cm}^2$

Question ID : 630680937727  
Option 1 ID : 6306803675391  
Option 2 ID : 6306803675390  
Option 3 ID : 6306803675392  
Option 4 ID : 6306803675389

**Q.17** If the radius of a sphere is four times of the radius of a hemisphere, then what will be the respective ratio of their volumes?

- Ans
- ✗ 1.  $256 : 1$
  - ✓ 2.  $128 : 1$
  - ✗ 3.  $64 : 3$
  - ✗ 4.  $32 : 5$

Question ID : 630680937686  
Option 1 ID : 6306803675227  
Option 2 ID : 6306803675226  
Option 3 ID : 6306803675225  
Option 4 ID : 6306803675228

**Q.18** If 91 shirts are bought for ₹ 12740, then how many shirts must be sold for ₹ 12558 to earn a profit of 30 percent?

- Ans
- ✗ 1. 59
  - ✓ 2. 69
  - ✗ 3. 89
  - ✗ 4. 79

Question ID : 630680937713  
Option 1 ID : 6306803675334  
Option 2 ID : 6306803675335  
Option 3 ID : 6306803675336  
Option 4 ID : 6306803675333

Q.19 If  $E : F = 11 : 4$ , then what is the value of  $E + F : F$ ?

- Ans
- ☒ 1.  $4 : 15$
  - ☒ 2.  $15 : 4$
  - ☐ 3.  $11 : 4$
  - ☐ 4.  $13 : 4$

Question ID : 630680937516  
Option 1 ID : 6306803674546  
Option 2 ID : 6306803674545  
Option 3 ID : 6306803674548  
Option 4 ID : 6306803674547

Q.20 If price of chairs is increased by 45 percent, then a person can buy 36 chairs less for ₹ 37120. What is the original price of a chair?

- Ans
- ☒ 1. ₹ 320
  - ☐ 2. ₹ 400
  - ☐ 3. ₹ 420
  - ☐ 4. ₹ 300

Question ID : 630680937710  
Option 1 ID : 6306803675321  
Option 2 ID : 6306803675322  
Option 3 ID : 6306803675323  
Option 4 ID : 6306803675324

Section : Test of English Language and Comprehension 1

Q.1 Fill in the blank with the appropriate option:

He speaks \_\_\_\_\_ fast that I can't understand him.

- Ans
- ☐ 1. enough
  - ☐ 2. very
  - ☒ 3. so
  - ☐ 4. to

Question ID : 630680938431  
Option 1 ID : 6306803678166  
Option 2 ID : 6306803678163  
Option 3 ID : 6306803678165  
Option 4 ID : 6306803678164

Q.2 Given below is a sentence with an error in the underlined segment. Say which of the options can replace the segment to make the sentence grammatically correct. If there is no error , choose 'No error':

Few people will remember too much detail of their early childhood.

Ans ☒ 1. from their early childhood.

☐ 2. for their early childhood.

☐ 3. no error

☐ 4. in their early childhood.

Question ID : 630680938609  
Option 1 ID : 6306803678829  
Option 2 ID : 6306803678827  
Option 3 ID : 6306803678830  
Option 4 ID : 6306803678828

Q.3 Choose the option which is synonym of the word "elated" in the sentence given below:

She was elated when she won the lottery.

Ans ☐ 1. depressed

☐ 2. confused

☐ 3. anguished

☒ 4. ecstatic

Question ID : 630680938363  
Option 1 ID : 6306803677915  
Option 2 ID : 6306803677918  
Option 3 ID : 6306803677917  
Option 4 ID : 6306803677916

Q.4 Choose the option which is antonym of (opposite of) the word tranquil in the sentence given below

She enjoyed the tranquil atmosphere of the library, where she could read in peace.

Ans ☐ 1. serene

☐ 2. discord

☐ 3. quiet

☒ 4. noisy

Question ID : 630680938577  
Option 1 ID : 6306803678711  
Option 2 ID : 6306803678712  
Option 3 ID : 6306803678714  
Option 4 ID : 6306803678713

Q.5 Fill in the blank with the correct article:

He ordered \_\_\_\_\_ pizza and \_\_\_\_\_ salad for dinner.

- Ans
- ☒ 1. no article, an
  - ☒ 2. an, an
  - ☒ 3. an, a
  - ☒ 4. a, no article

Question ID : 630680938391  
Option 1 ID : 6306803678016  
Option 2 ID : 6306803678018  
Option 3 ID : 6306803678017  
Option 4 ID : 6306803678015

Q.6 Rearrange the following sentences to form a coherent paragraph and choose the correct sequence from the options given below:

- A. Nokia failed to adapt to the changing market and consumer preferences, and lost its competitive edge to rivals like Apple and Samsung.
- B. Nokia was once the world's largest and most successful mobile phone company, dominating the industry for over a decade.
- C. It sold its mobile phone business to Microsoft in 2014, marking the end of an era for the Finnish giant.
- D. However, the rise of smartphones and touchscreens in the late 2000s posed a serious challenge to Nokia's dominance.

- Ans
- ☒ 1. BDAC
  - ☒ 2. BACD
  - ☒ 3. DCBA
  - ☒ 4. BCAD

Question ID : 630680938482  
Option 1 ID : 6306803678355  
Option 2 ID : 6306803678356  
Option 3 ID : 6306803678357  
Option 4 ID : 6306803678358

Q.7 Given below is a sentence with an error in the underlined segment. Say which of the options can replace the segment to make the sentence grammatically correct. If there is no error, choose 'No error'

She is considered a smartest by many people in her occupation.

- Ans
- ☒ 1. smartest by many people
  - ☒ 2. the smartest by many people
  - ☒ 3. no error
  - ☒ 4. this smartest by many people

Question ID : 630680938605  
Option 1 ID : 6306803678812  
Option 2 ID : 6306803678811  
Option 3 ID : 6306803678814  
Option 4 ID : 6306803678813



Q.8 Select the word segment that substitutes (replaces) the bracketed idiom correctly and completes the sentence meaningfully.

He (hit the books) the night before the exam.

- Ans
- ☐ 1. damaged the books
  - ☐ 2. threw the books
  - ☐ 3. borrowed the books
  - ☒ 4. studied hard

Question ID : 630680938529  
Option 1 ID : 6306803678532  
Option 2 ID : 6306803678533  
Option 3 ID : 6306803678534  
Option 4 ID : 6306803678531

Q.9 Choose the option which is antonym of the word "coherent" in the sentence given below:

His speech was coherent and well-organized.

- Ans
- ☐ 1. lucid
  - ☐ 2. logical
  - ☐ 3. consistent
  - ☒ 4. confusing

Question ID : 630680938405  
Option 1 ID : 6306803678074  
Option 2 ID : 6306803678071  
Option 3 ID : 6306803678072  
Option 4 ID : 6306803678073

Q.10 Choose the correct one-word substitution for the sentence/phrase given below:

A series of stars

- Ans
- ☐ 1. cluster
  - ☒ 2. constellation
  - ☐ 3. solar system
  - ☐ 4. gallery

Question ID : 630680938612  
Option 1 ID : 6306803678842  
Option 2 ID : 6306803678839  
Option 3 ID : 6306803678841  
Option 4 ID : 6306803678840

Q.11 Choose the most appropriate meaning of the idiom given below:

Costs an arm and a leg

- Ans ☒ 1. Eased the tension  
☒ 2. Very expensive  
☒ 3. Started a fight  
☒ 4. Made everyone laugh

Question ID : 630680938531  
 Option 1 ID : 6306803678541  
 Option 2 ID : 6306803678539  
 Option 3 ID : 6306803678542  
 Option 4 ID : 6306803678540

Q.12 Rearrange the following sentences to form a coherent paragraph and choose the correct sequence from the options given below:

- A. He also discovers that he is a famous wizard, as he survived an attack by the dark lord Voldemort when he was a baby.  
 B. Harry Potter is a series of fantasy novels written by J.K. Rowling, which have sold over 500 million copies worldwide.  
 C. The novels follow the adventures of Harry Potter and his friends, who attend the Hogwarts School of Witchcraft and Wizardry.  
 D. On his eleventh birthday, Harry Potter learns that he is a wizard, when he receives a letter of acceptance from Hogwarts.

- Ans ☒ 1. BCAD  
☒ 2. BACD  
☒ 3. BCDA  
☒ 4. DCBA

Question ID : 630680938524  
 Option 1 ID : 6306803678514  
 Option 2 ID : 6306803678512  
 Option 3 ID : 6306803678511  
 Option 4 ID : 6306803678513

Q.13 Select the word segment that substitutes (replaces) the bracketed idiom correctly and completes the sentence meaningfully.

He (saw the light) after reading the book.

- Ans ☒ 1. had a vision  
☒ 2. turned on the lamp  
☒ 3. understood the truth  
☒ 4. experienced horror

Question ID : 630680938615  
 Option 1 ID : 6306803678853  
 Option 2 ID : 6306803678851  
 Option 3 ID : 6306803678852  
 Option 4 ID : 6306803678854

Q.14 Fill in the blank with the appropriate article:

She is \_\_\_\_\_ fan of J.K. Rowling. She has read all her books.

- Ans
- ☒ 1. no article
  - ☒ 2. a
  - ☒ 3. an
  - ☒ 4. the

Question ID : 630680938515  
Option 1 ID : 6306803678478  
Option 2 ID : 6306803678475  
Option 3 ID : 6306803678476  
Option 4 ID : 6306803678477

Q.15 Rearrange the following sentences to form a coherent paragraph and choose the correct sequence from the options given below:

- A. He is widely regarded as one of the most influential and significant cultural figures of the 20th century, and is also recognized as the most successful entertainer of all time by Guinness World Records.
- B. Michael Jackson was an American singer, songwriter, and dancer, who is often referred to as the "King of Pop".
- C. He achieved global fame as the lead singer of the Jackson 5, a group he formed with his brothers in the late 1960s, and later embarked on a solo career that spanned four decades, from the 1970s to the 2000s.
- D. He was also known for his groundbreaking music videos, such as "Thriller", "Beat It", and "Smooth Criminal", his distinctive vocal style, his signature dance moves, such as the moonwalk and the robot, and his humanitarian and philanthropic efforts.

- Ans
- ☒ 1. CBAD
  - ☒ 2. ABCD
  - ☒ 3. BCAD
  - ☒ 4. DBCA

Question ID : 630680938395  
Option 1 ID : 6306803678033  
Option 2 ID : 6306803678031  
Option 3 ID : 6306803678032  
Option 4 ID : 6306803678034

Q.16 Fill in the blank with correct part of speech:

He has \_\_\_\_\_ friends in this city.

- Ans
- ☒ 1. much
  - ☒ 2. many
  - ☒ 3. less
  - ☒ 4. fewer

Question ID : 630680938349  
Option 1 ID : 6306803677860  
Option 2 ID : 6306803677859  
Option 3 ID : 6306803677862  
Option 4 ID : 6306803677861

Q.17 Fill in the blank with the correct preposition:

He spoke \_\_\_\_\_ a low voice.

- Ans
- ☒ 1. by
  - ☒ 2. with
  - ☒ 3. for
  - ☒ 4. in

Question ID : 630680938604  
Option 1 ID : 6306803678809  
Option 2 ID : 6306803678810  
Option 3 ID : 6306803678808  
Option 4 ID : 6306803678807

Q.18 Fill in the blank with the appropriate article.

Jaya has \_\_\_\_\_ highest score in the class.

- Ans
- ☒ 1. an
  - ☒ 2. a
  - ☒ 3. no article
  - ☒ 4. the

Question ID : 630680938557  
Option 1 ID : 6306803678632  
Option 2 ID : 6306803678631  
Option 3 ID : 6306803678634  
Option 4 ID : 6306803678633

Q.19 Fill in the blank with the correct part of speech:

He ran \_\_\_\_\_ the street to catch the bus.

- Ans
- ☒ 1. around
  - ☒ 2. through
  - ☒ 3. across
  - ☒ 4. along

Question ID : 630680938346  
Option 1 ID : 6306803677849  
Option 2 ID : 6306803677850  
Option 3 ID : 6306803677847  
Option 4 ID : 6306803677848

Q.20 Fill in the blank with correct part of speech:

This is a \_\_\_\_\_ novel by Anita Nair.

- Ans
- ✓ 1. beautiful
  - ✗ 2. first
  - ✗ 3. art
  - ✗ 4. cover

Question ID : 630680938301  
Option 1 ID : 6306803677679  
Option 2 ID : 6306803677682  
Option 3 ID : 6306803677680  
Option 4 ID : 6306803677681

Section : Test of English Language and Comprehension 2

Q.1 Choose the word that best completes the sentence:

They went to \_\_\_\_\_ a movie.

- Ans
- ✗ 1. seed
  - ✗ 2. secede
  - ✗ 3. cede
  - ✓ 4. see

Question ID : 630680938408  
Option 1 ID : 6306803678084  
Option 2 ID : 6306803678085  
Option 3 ID : 6306803678083  
Option 4 ID : 6306803678086

Q.2 Choose the most appropriate meaning of the idiom given below:

at the drop of a hat

- Ans
- ✓ 1. without hesitation
  - ✗ 2. at special times
  - ✗ 3. without any prior thought
  - ✗ 4. at all occasions

Question ID : 630680938573  
Option 1 ID : 6306803678696  
Option 2 ID : 6306803678698  
Option 3 ID : 6306803678697  
Option 4 ID : 6306803678695

Q.3 Choose the option which is antonym of the word 'adversity' in the sentence given below:

He showed great courage and resilience in the face of adversity.

- Ans
- ✓ 1. prosperity
  - ✗ 2. misfortune
  - ✗ 3. hardship
  - ✗ 4. calamity

Question ID : 630680938403  
Option 1 ID : 6306803678065  
Option 2 ID : 6306803678064  
Option 3 ID : 6306803678063  
Option 4 ID : 6306803678066

Q.4 The sentence given below is divided in to three segments. Choose the segment which has a spelling error. If there are no errors, choose No error option.

Her indispensible/ contributions to the/ project were acknowledged.

- Ans
- ✗ 1. No error
  - ✗ 2. contributions to the
  - ✓ 3. Her indispensible
  - ✗ 4. project were acknowledged

Question ID : 630680938624  
Option 1 ID : 6306803678890  
Option 2 ID : 6306803678888  
Option 3 ID : 6306803678887  
Option 4 ID : 6306803678889

Q.5 Which word is a homonym of bear ?

- Ans
- ✗ 1. bore
  - ✗ 2. buyer
  - ✗ 3. beer
  - ✓ 4. bare

Question ID : 630680938622  
Option 1 ID : 6306803678882  
Option 2 ID : 6306803678881  
Option 3 ID : 6306803678880  
Option 4 ID : 6306803678879

Comprehension:

A passage is given with 5 blanks in it. Read the passage carefully and choose the best answer to each question out of the four alternatives:

The Spartans, inhabitants of the ancient Greek city-state of Sparta, were renowned for their formidable military (1)\_\_\_\_\_ and disciplined way of life. Living in a society that prioritized collectivism Spartans were trained from a (2) \_\_\_\_\_age in the art of warfare. Spartan society was (3) \_\_\_\_\_ around a rigid system known as the agoge, an education and training program that (4) \_\_\_\_\_ to mould young Spartans into formidable warriors. This system focused on (5) \_\_\_\_\_ qualities such as discipline, loyalty, and physical fitness.

SubQuestion No : 6

Q.6 Select the most appropriate option to fill in blank number (1).

- Ans
- ✓ 1. prowess
  - ✗ 2. mastery
  - ✗ 3. talent
  - ✗ 4. aptitude

Question ID : 630680938626  
Option 1 ID : 6306803678892  
Option 2 ID : 6306803678893  
Option 3 ID : 6306803678891  
Option 4 ID : 6306803678894

Comprehension:

A passage is given with 5 blanks in it. Read the passage carefully and choose the best answer to each question out of the four alternatives:

The Spartans, inhabitants of the ancient Greek city-state of Sparta, were renowned for their formidable military (1)\_\_\_\_\_ and disciplined way of life. Living in a society that prioritized collectivism Spartans were trained from a (2) \_\_\_\_\_age in the art of warfare. Spartan society was (3) \_\_\_\_\_ around a rigid system known as the agoge, an education and training program that (4) \_\_\_\_\_ to mould young Spartans into formidable warriors. This system focused on (5) \_\_\_\_\_ qualities such as discipline, loyalty, and physical fitness.

SubQuestion No : 7

Q.7 Select the most appropriate option to fill in blank number (2).

- Ans
- ✗ 1. primary
  - ✗ 2. nascent
  - ✗ 3. infant
  - ✓ 4. young

Question ID : 630680938627  
Option 1 ID : 6306803678898  
Option 2 ID : 6306803678895  
Option 3 ID : 6306803678897  
Option 4 ID : 6306803678896

Comprehension:

A passage is given with 5 blanks in it. Read the passage carefully and choose the best answer to each question out of the four alternatives:

The Spartans, inhabitants of the ancient Greek city-state of Sparta, were renowned for their formidable military (1)\_\_\_\_\_ and disciplined way of life. Living in a society that prioritized collectivism Spartans were trained from a (2) \_\_\_\_\_age in the art of warfare. Spartan society was (3) \_\_\_\_\_ around a rigid system known as the agoge, an education and training program that (4) \_\_\_\_\_ to mould young Spartans into formidable warriors. This system focused on (5) \_\_\_\_\_ qualities such as discipline, loyalty, and physical fitness.

SubQuestion No : 8

Q.8 Select the most appropriate option to fill in blank number (3).

- Ans
- ☒ 1. constructed
  - ☒ 2. arranged
  - ☒ 3. structured
  - ☒ 4. classified

Question ID : 630680938628

Option 1 ID : 6306803678899

Option 2 ID : 6306803678900

Option 3 ID : 6306803678902

Option 4 ID : 6306803678901

Comprehension:

A passage is given with 5 blanks in it. Read the passage carefully and choose the best answer to each question out of the four alternatives:

The Spartans, inhabitants of the ancient Greek city-state of Sparta, were renowned for their formidable military (1)\_\_\_\_\_ and disciplined way of life. Living in a society that prioritized collectivism Spartans were trained from a (2) \_\_\_\_\_age in the art of warfare. Spartan society was (3) \_\_\_\_\_ around a rigid system known as the agoge, an education and training program that (4) \_\_\_\_\_ to mould young Spartans into formidable warriors. This system focused on (5) \_\_\_\_\_ qualities such as discipline, loyalty, and physical fitness.

SubQuestion No : 9

Q.9 Select the most appropriate option to fill in blank number (4).

- Ans
- ☒ 1. aimed
  - ☒ 2. resolved
  - ☒ 3. proposed
  - ☒ 4. wished

Question ID : 630680938629

Option 1 ID : 6306803678905

Option 2 ID : 6306803678903

Option 3 ID : 6306803678904

Option 4 ID : 6306803678906



**Comprehension:**

A passage is given with 5 blanks in it. Read the passage carefully and choose the best answer to each question out of the four alternatives:

The Spartans, inhabitants of the ancient Greek city-state of Sparta, were renowned for their formidable military (1)\_\_\_\_\_ and disciplined way of life. Living in a society that prioritized collectivism Spartans were trained from a (2) \_\_\_\_\_age in the art of warfare. Spartan society was (3) \_\_\_\_\_ around a rigid system known as the agoge, an education and training program that (4) \_\_\_\_\_ to mould young Spartans into formidable warriors. This system focused on (5) \_\_\_\_\_ qualities such as discipline, loyalty, and physical fitness.

**SubQuestion No : 10**

**Q.10 Select the most appropriate option to fill in blank number (5).**

- Ans**    ☒ 1. instilling  
☒ 2. infusing  
☒ 3. inserting  
☒ 4. injecting

Question ID : 630680938630  
Option 1 ID : 6306803678910  
Option 2 ID : 6306803678907  
Option 3 ID : 6306803678909  
Option 4 ID : 6306803678908

**Comprehension:**

A passage is given with 5 questions following it. Read the passage carefully and choose the best answer to each question out of the four alternatives:

Released in 1997 and directed by James Cameron, "Titanic" remains a cinematic masterpiece that captured the hearts of audiences worldwide. The film recounts the tragic love story between Jack Dawson, played by Leonardo DiCaprio, and Rose DeWitt Bukater, portrayed by Kate Winslet, against the backdrop of the ill-fated maiden voyage of the RMS Titanic. "Titanic" seamlessly weaves historical drama with romance, showcasing Cameron's directorial prowess and attention to detail. The film's stunning visual effects and meticulous recreation of the iconic ship earned it critical acclaim and numerous accolades, including 11 Academy Awards. Beyond its technical achievements, "Titanic" struck an emotional chord, with its timeless tale of love and loss. The chemistry between DiCaprio and Winslet, coupled with James Horner's iconic musical score, contributed to the film's enduring cultural impact. "Titanic" not only became the highest-grossing film of its time but also left an indelible mark on popular culture. Decades after its release, the image of Jack and Rose at the ship's bow, with the haunting refrain of "My Heart Will Go On," continues to evoke nostalgia and remains a symbol of cinematic storytelling at its finest.

**SubQuestion No : 11**

**Q.11 What is the antonym of the word "indelible" as used in the passage?**

- Ans**    ☒ 1. Temporary  
☒ 2. Contemporary  
☒ 3. debatable  
☒ 4. Casted

Question ID : 630680938555  
Option 1 ID : 6306803678623  
Option 2 ID : 6306803678626  
Option 3 ID : 6306803678624  
Option 4 ID : 6306803678625

Comprehension:

A passage is given with 5 questions following it. Read the passage carefully and choose the best answer to each question out of the four alternatives:

Released in 1997 and directed by James Cameron, "Titanic" remains a cinematic masterpiece that captured the hearts of audiences worldwide. The film recounts the tragic love story between Jack Dawson, played by Leonardo DiCaprio, and Rose DeWitt Bukater, portrayed by Kate Winslet, against the backdrop of the ill-fated maiden voyage of the RMS Titanic. "Titanic" seamlessly weaves historical drama with romance, showcasing Cameron's directorial prowess and attention to detail. The film's stunning visual effects and meticulous recreation of the iconic ship earned it critical acclaim and numerous accolades, including 11 Academy Awards. Beyond its technical achievements, "Titanic" struck an emotional chord, with its timeless tale of love and loss. The chemistry between DiCaprio and Winslet, coupled with James Horner's iconic musical score, contributed to the film's enduring cultural impact. "Titanic" not only became the highest-grossing film of its time but also left an indelible mark on popular culture. Decades after its release, the image of Jack and Rose at the ship's bow, with the haunting refrain of "My Heart Will Go On," continues to evoke nostalgia and remains a symbol of cinematic storytelling at its finest.

SubQuestion No : 12

Q.12 How is the passage structured?

- Ans
- ☒ 1. Problem - Solution - Evaluation
  - ☒ 2. Cause - Effect - Implication
  - ☒ 3. Introduction - Body - Conclusion
  - ☒ 4. Comparison - Contrast - Synthesis

Question ID : 630680938556  
 Option 1 ID : 6306803678628  
 Option 2 ID : 6306803678629  
 Option 3 ID : 6306803678627  
 Option 4 ID : 6306803678630

**Comprehension:**

A passage is given with 5 questions following it. Read the passage carefully and choose the best answer to each question out of the four alternatives:

Released in 1997 and directed by James Cameron, "Titanic" remains a cinematic masterpiece that captured the hearts of audiences worldwide. The film recounts the tragic love story between Jack Dawson, played by Leonardo DiCaprio, and Rose DeWitt Bukater, portrayed by Kate Winslet, against the backdrop of the ill-fated maiden voyage of the RMS Titanic.

"Titanic" seamlessly weaves historical drama with romance, showcasing Cameron's directorial prowess and attention to detail. The film's stunning visual effects and meticulous recreation of the iconic ship earned it critical acclaim and numerous accolades, including 11 Academy Awards.

Beyond its technical achievements, "Titanic" struck an emotional chord, with its timeless tale of love and loss. The chemistry between DiCaprio and Winslet, coupled with James Horner's iconic musical score, contributed to the film's enduring cultural impact.

"Titanic" not only became the highest-grossing film of its time but also left an indelible mark on popular culture. Decades after its release, the image of Jack and Rose at the ship's bow, with the haunting refrain of "My Heart Will Go On," continues to evoke nostalgia and remains a symbol of cinematic storytelling at its finest.

**SubQuestion No : 13**

**Q.13 What is the central theme of the passage?**

- Ans**    ☒ 1. The romance of "Titanic"
- ☐ 2. The innovation of "Titanic"
- ☐ 3. The tragedy of "Titanic"
- ☐ 4. The history of "Titanic"

Question ID : 630680938553  
Option 1 ID : 6306803678617  
Option 2 ID : 6306803678616  
Option 3 ID : 6306803678618  
Option 4 ID : 6306803678615

### Comprehension:

A passage is given with 5 questions following it. Read the passage carefully and choose the best answer to each question out of the four alternatives:

Released in 1997 and directed by James Cameron, "Titanic" remains a cinematic masterpiece that captured the hearts of audiences worldwide. The film recounts the tragic love story between Jack Dawson, played by Leonardo DiCaprio, and Rose DeWitt Bukater, portrayed by Kate Winslet, against the backdrop of the ill-fated maiden voyage of the RMS Titanic.

"Titanic" seamlessly weaves historical drama with romance, showcasing Cameron's directorial prowess and attention to detail. The film's stunning visual effects and meticulous recreation of the iconic ship earned it critical acclaim and numerous accolades, including 11 Academy Awards.

Beyond its technical achievements, "Titanic" struck an emotional chord, with its timeless tale of love and loss. The chemistry between DiCaprio and Winslet, coupled with James Horner's iconic musical score, contributed to the film's enduring cultural impact.

"Titanic" not only became the highest-grossing film of its time but also left an indelible mark on popular culture. Decades after its release, the image of Jack and Rose at the ship's bow, with the haunting refrain of "My Heart Will Go On," continues to evoke nostalgia and remains a symbol of cinematic storytelling at its finest.

### SubQuestion No : 14

Q.14 What is the tone of the passage?

- Ans
- ☒ 1. Critical
  - ☒ 2. Sarcastic
  - ☒ 3. Descriptive
  - ☒ 4. Argumentative

Question ID : 630680938552  
Option 1 ID : 6306803678611  
Option 2 ID : 6306803678614  
Option 3 ID : 6306803678612  
Option 4 ID : 6306803678613

### Comprehension:

A passage is given with 5 questions following it. Read the passage carefully and choose the best answer to each question out of the four alternatives:

Released in 1997 and directed by James Cameron, "Titanic" remains a cinematic masterpiece that captured the hearts of audiences worldwide. The film recounts the tragic love story between Jack Dawson, played by Leonardo DiCaprio, and Rose DeWitt Bukater, portrayed by Kate Winslet, against the backdrop of the ill-fated maiden voyage of the RMS Titanic.

"Titanic" seamlessly weaves historical drama with romance, showcasing Cameron's directorial prowess and attention to detail. The film's stunning visual effects and meticulous recreation of the iconic ship earned it critical acclaim and numerous accolades, including 11 Academy Awards.

Beyond its technical achievements, "Titanic" struck an emotional chord, with its timeless tale of love and loss. The chemistry between DiCaprio and Winslet, coupled with James Horner's iconic musical score, contributed to the film's enduring cultural impact.

"Titanic" not only became the highest-grossing film of its time but also left an indelible mark on popular culture. Decades after its release, the image of Jack and Rose at the ship's bow, with the haunting refrain of "My Heart Will Go On," continues to evoke nostalgia and remains a symbol of cinematic storytelling at its finest.

### SubQuestion No : 15

Q.15 Which of the following can be inferred from the passage?

- Ans
- ☒ 1. "Titanic" is a musical film
  - ☒ 2. "Titanic" is a controversial film
  - ☒ 3. "Titanic" is a nostalgic film
  - ☒ 4. "Titanic" is based on a true story

Question ID : 630680938554  
Option 1 ID : 6306803678620  
Option 2 ID : 6306803678621  
Option 3 ID : 6306803678622  
Option 4 ID : 6306803678619

### Comprehension:

A passage is given with 5 questions following it. Read the passage carefully and choose the best answer to each question out of the four alternatives:

The Iron Age, spanning from around 1200 BCE to 500 CE, represents a significant juncture in human history marked by the widespread adoption of iron tools and weaponry. Building upon the technological advancements of the preceding Bronze Age, the use of iron offered societies a more abundant and cost-effective resource, leading to transformative changes across the globe.

This era witnessed the rise and fall of powerful civilizations, such as the Hittites, Assyrians, and later the Roman Empire and Han Dynasty, each making significant strides in governance, trade, and military prowess. The increased availability of iron facilitated agricultural improvements, allowing for more efficient farming tools and, consequently, population growth.

Ironworking techniques also played a crucial role in shaping cultural practices, as evidenced by intricate iron artifacts and weaponry. The Iron Age represents a period of dynamic social and economic evolution, contributing to the formation of empires, the codification of laws, and the development of intricate belief systems.

As societies transitioned from the reliance on bronze to the widespread use of iron, the Iron Age laid the groundwork for the subsequent chapters of human history, leaving an enduring legacy in the annals of civilization.

### SubQuestion No : 16

Q.16 What is the central theme of the passage?

- Ans ☒ 1. The history of the Iron Age
- ☐ 2. The significance of the Iron Age
- ☐ 3. The transition of the Iron Age
- ☐ 4. The metallurgy of the Iron Age

Question ID : 630680938633  
Option 1 ID : 6306803678915  
Option 2 ID : 6306803678917  
Option 3 ID : 6306803678918  
Option 4 ID : 6306803678916

**Comprehension:**

A passage is given with 5 questions following it. Read the passage carefully and choose the best answer to each question out of the four alternatives:

The Iron Age, spanning from around 1200 BCE to 500 CE, represents a significant juncture in human history marked by the widespread adoption of iron tools and weaponry. Building upon the technological advancements of the preceding Bronze Age, the use of iron offered societies a more abundant and cost-effective resource, leading to transformative changes across the globe.

This era witnessed the rise and fall of powerful civilizations, such as the Hittites, Assyrians, and later the Roman Empire and Han Dynasty, each making significant strides in governance, trade, and military prowess. The increased availability of iron facilitated agricultural improvements, allowing for more efficient farming tools and, consequently, population growth.

Ironworking techniques also played a crucial role in shaping cultural practices, as evidenced by intricate iron artifacts and weaponry. The Iron Age represents a period of dynamic social and economic evolution, contributing to the formation of empires, the codification of laws, and the development of intricate belief systems.

As societies transitioned from the reliance on bronze to the widespread use of iron, the Iron Age laid the groundwork for the subsequent chapters of human history, leaving an enduring legacy in the annals of civilization.

**SubQuestion No : 17**

**Q.17 What is the tone of the passage?**

- Ans
- ☒ 1. Sarcastic
  - ☒ 2. Descriptive
  - ☒ 3. Argumentative
  - ☒ 4. Critical

Question ID : 630680938632  
Option 1 ID : 6306803678914  
Option 2 ID : 6306803678912  
Option 3 ID : 6306803678913  
Option 4 ID : 6306803678911

### Comprehension:

A passage is given with 5 questions following it. Read the passage carefully and choose the best answer to each question out of the four alternatives:

The Iron Age, spanning from around 1200 BCE to 500 CE, represents a significant juncture in human history marked by the widespread adoption of iron tools and weaponry. Building upon the technological advancements of the preceding Bronze Age, the use of iron offered societies a more abundant and cost-effective resource, leading to transformative changes across the globe.

This era witnessed the rise and fall of powerful civilizations, such as the Hittites, Assyrians, and later the Roman Empire and Han Dynasty, each making significant strides in governance, trade, and military prowess. The increased availability of iron facilitated agricultural improvements, allowing for more efficient farming tools and, consequently, population growth.

Ironworking techniques also played a crucial role in shaping cultural practices, as evidenced by intricate iron artifacts and weaponry. The Iron Age represents a period of dynamic social and economic evolution, contributing to the formation of empires, the codification of laws, and the development of intricate belief systems.

As societies transitioned from the reliance on bronze to the widespread use of iron, the Iron Age laid the groundwork for the subsequent chapters of human history, leaving an enduring legacy in the annals of civilization.

### SubQuestion No : 18

**Q.18** Which of the following can be inferred from the passage?

- Ans
- ☒ 1. The Iron Age had little impact on the socio economic status of human societies
  - ☒ 2. The Iron Age was immediately preceded by the Stone Age
  - ☒ 3. The Iron Age was marked by an era of no wars
  - ☒ 4. The Iron Age is marked by more wars and conquests.

Question ID : 630680938634  
Option 1 ID : 6306803678922  
Option 2 ID : 6306803678919  
Option 3 ID : 6306803678921  
Option 4 ID : 6306803678920



### Comprehension:

A passage is given with 5 questions following it. Read the passage carefully and choose the best answer to each question out of the four alternatives:

The Iron Age, spanning from around 1200 BCE to 500 CE, represents a significant juncture in human history marked by the widespread adoption of iron tools and weaponry. Building upon the technological advancements of the preceding Bronze Age, the use of iron offered societies a more abundant and cost-effective resource, leading to transformative changes across the globe.

This era witnessed the rise and fall of powerful civilizations, such as the Hittites, Assyrians, and later the Roman Empire and Han Dynasty, each making significant strides in governance, trade, and military prowess. The increased availability of iron facilitated agricultural improvements, allowing for more efficient farming tools and, consequently, population growth.

Ironworking techniques also played a crucial role in shaping cultural practices, as evidenced by intricate iron artifacts and weaponry. The Iron Age represents a period of dynamic social and economic evolution, contributing to the formation of empires, the codification of laws, and the development of intricate belief systems.

As societies transitioned from the reliance on bronze to the widespread use of iron, the Iron Age laid the groundwork for the subsequent chapters of human history, leaving an enduring legacy in the annals of civilization.

### SubQuestion No : 19

Q.19 What is the antonym of the word "abundant" as used in the passage?

Ans ☒ 1. Copious

☒ 2. Scarce

☒ 3. Plentiful

☒ 4. Sacred

Question ID : 630680938635  
Option 1 ID : 6306803678926  
Option 2 ID : 6306803678923  
Option 3 ID : 6306803678924  
Option 4 ID : 6306803678925

**Comprehension:**

A passage is given with 5 questions following it. Read the passage carefully and choose the best answer to each question out of the four alternatives:

The Iron Age, spanning from around 1200 BCE to 500 CE, represents a significant juncture in human history marked by the widespread adoption of iron tools and weaponry. Building upon the technological advancements of the preceding Bronze Age, the use of iron offered societies a more abundant and cost-effective resource, leading to transformative changes across the globe.

This era witnessed the rise and fall of powerful civilizations, such as the Hittites, Assyrians, and later the Roman Empire and Han Dynasty, each making significant strides in governance, trade, and military prowess. The increased availability of iron facilitated agricultural improvements, allowing for more efficient farming tools and, consequently, population growth.

Ironworking techniques also played a crucial role in shaping cultural practices, as evidenced by intricate iron artifacts and weaponry. The Iron Age represents a period of dynamic social and economic evolution, contributing to the formation of empires, the codification of laws, and the development of intricate belief systems.

As societies transitioned from the reliance on bronze to the widespread use of iron, the Iron Age laid the groundwork for the subsequent chapters of human history, leaving an enduring legacy in the annals of civilization.

**SubQuestion No : 20**

**Q.20 Which of the following sentences belongs to the conclusion of the passage?**

- Ans ☒ 1. Ironworking methods also wielded influence in shaping cultural values, evident in the intricate iron artifacts and weapons produced.
- ☒ 2. The Iron Age, stretching approximately from 1200 BCE to 500 CE, stands out as a pivotal era in human history characterized by the broad acceptance of iron tools and arms.
- ☒ 3. The greater accessibility of iron spurred advancements in agriculture, enabling the development of more effective farming methods and thus enabling population expansion.
- ☒ 4. As societies shifted from bronze reliance to embracing iron on a wide scale, the Iron Age established the foundation for future epochs in human history, leaving a lasting impact on the records of civilization.

Question ID : 630680938636  
Option 1 ID : 6306803678929  
Option 2 ID : 6306803678927  
Option 3 ID : 6306803678928  
Option 4 ID : 6306803678930

**Section : Test of Hindi Language and Comprehension 1**

**Q.1 निम्नलिखित प्रश्न में, चार विकल्पों में से, उस विकल्प का चयन करें जो दिए गए वाक्य के लिए सही क्रिया के रूप वाला विकल्प है।**

अध्यापक ने बच्चों से बगीचा साफ करवाया।

- Ans ☒ 1. प्रेरणार्थक क्रिया
- ☒ 2. कृदंत क्रिया
- ☒ 3. पूर्वकालिक क्रिया
- ☒ 4. अकर्मक क्रिया

Question ID : 630680938984  
Option 1 ID : 6306803680268  
Option 2 ID : 6306803680269  
Option 3 ID : 6306803680270  
Option 4 ID : 6306803680267

Q.2 निम्नलिखित वाक्य में, उस वाक्यांश को पहचानिए जिसमें मात्राओं से संबंधित अशुद्धियाँ हैं। यदि कोई गलती नहीं है तो 'कोई त्रुटि नहीं है' का चुनाव कीजिए।

पर्यावरणीय और व्यक्तिगत स्वच्छता की/ आदत में बढ़ावा देने को लिये स्कूल जाने वाले/ बच्चे सबसे बेहतर माध्यम हैं।

- Ans
- ☒ 1. पर्यावरणीय और व्यक्तिगत स्वच्छता की
  - ☒ 2. आदत में बढ़ावा देने को लिये स्कूल जाने वाले
  - ☒ 3. बच्चे सबसे बेहतर माध्यम हैं।
  - ☒ 4. कोई त्रुटि नहीं है

Question ID : 630680938788  
Option 1 ID : 6306803679523  
Option 2 ID : 6306803679524  
Option 3 ID : 6306803679525  
Option 4 ID : 6306803679526

Q.3 निम्नलिखित विकल्पों में से, उस विकल्प का चयन करें जो दी गई लोकोक्ति का सही अर्थ है।

एक तो चोरी, ऊपर से सीनाज़ोरी

- Ans
- ☒ 1. बाहर से अच्छा, भीतर से बुरा
  - ☒ 2. गलत काम करके आँख दिखाना
  - ☒ 3. एक काम से दूसरा काम हो जाना
  - ☒ 4. झगड़ा एक ओर से नहीं होता

Question ID : 630680938866  
Option 1 ID : 6306803679822  
Option 2 ID : 6306803679821  
Option 3 ID : 6306803679820  
Option 4 ID : 6306803679819

Q.4 निम्नलिखित विकल्पों में से कौन सा विकल्प एक सुसंगत वाक्य बनाने के लिए वाक्यांशों को सही ढंग से व्यवस्थित करता है?

- A- चक्कर लगाया और फिर अपने चाचा के तबेले
- B- बाद घर आकर हम लोगों ने ढेर सारी बातें की
- C- में जाकर उन्हें उनका दोपहर का भोजन दिया, उसके
- D- मैं और मेरे भाई दोनों ने मिलकर गांव का एक

- Ans
- ☒ 1. DACB
  - ☒ 2. BCDA
  - ☒ 3. BACD
  - ☒ 4. BCAD

Question ID : 630680938932  
Option 1 ID : 6306803680073  
Option 2 ID : 6306803680072  
Option 3 ID : 6306803680071  
Option 4 ID : 6306803680074

Q.5 निम्नलिखित प्रश्न में, चार विकल्पों में से, उस विकल्प का चयन करें जो दिए गए मुहावरे का सही अर्थ वाला विकल्प है।

अपने पैरों पर खड़ा होना

- Ans
- ☒ 1. अपनी प्रशंसा स्वयं करना
  - ☒ 2. लज्जित होना
  - ☒ 3. स्वावलम्बी होना
  - ☒ 4. सबसे पृथक् कार्य करना

Question ID : 630680938946  
Option 1 ID : 6306803680124  
Option 2 ID : 6306803680125  
Option 3 ID : 6306803680123  
Option 4 ID : 6306803680126

Q.6 उचित कारक चुनकर रिक्त स्थान की पूर्ति करें-

मेरे परिवार वाले सदैव गरीबों \_\_\_\_\_ भोजन कराते हैं।

- Ans
- ☒ 1. से
  - ☒ 2. में
  - ☒ 3. द्वारा
  - ☒ 4. को

Question ID : 630680938817  
Option 1 ID : 6306803679631  
Option 2 ID : 6306803679634  
Option 3 ID : 6306803679633  
Option 4 ID : 6306803679632

Q.7 निम्नलिखित प्रश्न में, चार विकल्पों में से, उस विकल्प का चयन करें जो कोष्ठक में दिए गए शब्द के अनुसार सही विशेषण के रूप वाला विकल्प है।

उन्होंने विदेश जाकर भी कभी भी (क्षणिक सफलता) के बहाव में खुद को बहने नहीं दिया।

- Ans
- ☒ 1. परिमाणवाचक विशेषण
  - ☒ 2. गुणवाचक विशेषण
  - ☒ 3. संख्यावाचक विशेषण
  - ☒ 4. सार्वनामिक विशेषण

Question ID : 630680938694  
Option 1 ID : 6306803679166  
Option 2 ID : 6306803679163  
Option 3 ID : 6306803679164  
Option 4 ID : 6306803679165

Q.8 निम्नलिखित प्रश्न में, चार विकल्पों में से, उस विकल्प का चयन करें जो दिए गए मुहावरे का सही अर्थ वाला विकल्प है।

घर की खेती

- Ans
- ☒ 1. काम बिगाड़ना
  - ☒ 2. सहजता से मिलनेवाला पदार्थ
  - ☒ 3. डींग मारना
  - ☒ 4. अलभ्य वस्तु होना

Question ID : 630680938738  
Option 1 ID : 6306803679331  
Option 2 ID : 6306803679333  
Option 3 ID : 6306803679332  
Option 4 ID : 6306803679334

Q.9 निम्नलिखित प्रश्न में, चार विकल्पों में से, उस विकल्प का चयन करें जो कोष्ठक में दिए गए शब्द के अनुसार सही क्रिया विशेषण के रूप वाला विकल्प है।

तुम कुछ दिनों से कमजोर लग रहे हो थोड़ा (अधिक) खाना खाओ।

- Ans
- ☒ 1. कालवाचक क्रियाविशेषण
  - ☒ 2. स्थानवाचक क्रियाविशेषण
  - ☒ 3. रीतिवाचक क्रियाविशेषण
  - ☒ 4. परिमाणवाचक क्रियाविशेषण

Question ID : 630680938779  
Option 1 ID : 6306803679487  
Option 2 ID : 6306803679488  
Option 3 ID : 6306803679489  
Option 4 ID : 6306803679490

Q.10 निम्नलिखित प्रश्न में, चार विकल्पों में से, उस विकल्प का चयन करें जो दिए गए मुहावरे का सही अर्थ वाला विकल्प है।

पानी फेर देना

- Ans
- ☒ 1. हारकर भाग जाना
  - ☒ 2. मामले या पद से हटा देना
  - ☒ 3. कष्ट झेलना
  - ☒ 4. निराश कर देना

Question ID : 630680938700  
Option 1 ID : 6306803679189  
Option 2 ID : 6306803679190  
Option 3 ID : 6306803679188  
Option 4 ID : 6306803679187

Q.11 निम्नलिखित प्रश्न में, चार विकल्पों में से, उस सही विकल्प का चयन करें जो वाक्यांशों के लिए एक शब्द का विकल्प हो।

जो ढका हुआ न हो

- Ans
- ☒ 1. अनुरंजक
  - ☒ 2. अनावृत
  - ☒ 3. अनिकेत
  - ☒ 4. अध्यादेश

Question ID : 630680938731  
Option 1 ID : 6306803679304  
Option 2 ID : 6306803679305  
Option 3 ID : 6306803679303  
Option 4 ID : 6306803679306

Q.12 निम्नलिखित वाक्य में, उस वाक्यांश को पहचानिए जिसमें कुछ अशुद्धियाँ हैं यदि कोई गलती नहीं है तो 'कोई त्रुटि नहीं है' का चुनाव कीजिए

सरकार द्वारा दिए गए सख्त कानूनों को साथ दहेज प्रणाली की अभी भी समाज में एक मजबूत पकड़ है और आये दिन कई महिलाएँ इसका शिकार हो रही हैं।

- Ans
- ☒ 1. सरकार द्वारा दिए गए सख्त कानूनों को साथ दहेज प्रणाली
  - ☒ 2. आये दिन कई महिलाएँ इसका शिकार हो रही हैं।
  - ☒ 3. की अभी भी समाज में एक मजबूत पकड़ है और
  - ☒ 4. कोई त्रुटि नहीं है

Question ID : 630680938829  
Option 1 ID : 6306803679679  
Option 2 ID : 6306803679681  
Option 3 ID : 6306803679680  
Option 4 ID : 6306803679682

Q.13 निम्नलिखित प्रश्न में, चार विकल्पों में से, उस सही विकल्प का चयन करें जो दिए गए अनुच्छेद के लिए अंतिम वाक्य का सही विकल्प हो।

देश का तिरंगा देशप्रेम, अखंडता और एकता का प्रतीक है। तिरंगे की अहमियत देशवासी भली-भाँति जानते हैं। तिरंगे की रक्षा के लिए स्वतंत्रता सेनानियों ने अपनी जान की परवाह तक नहीं की। \_\_\_\_\_

- Ans
- ☒ 1. क्रांतिकारियों में स्वतंत्रता सेनानियों से त्याग का प्रतीक है यह तिरंगा।
  - ☒ 2. क्रांतिकारियों द्वारा स्वतंत्रता सेनानियों से त्याग का प्रतीक है, यह तिरंगा।
  - ☒ 3. क्रांतिकारियों और स्वतंत्रता सेनानियों के त्याग का प्रतीक है, यह तिरंगा।
  - ☒ 4. क्रांतिकारियों को स्वतंत्र सेनानियों से त्याग में प्रतीक है यह तिरंगा।

Question ID : 630680938762  
Option 1 ID : 6306803679425  
Option 2 ID : 6306803679424  
Option 3 ID : 6306803679423  
Option 4 ID : 6306803679426

Q.14 निम्नलिखित में से, उस विकल्प का चयन करें जो दिए गए अनुच्छेद के अंतिम वाक्य का उचित विकल्प हो

शिक्षा के क्षेत्र में विज्ञान का बहुत अधिक महत्व है। आज इस कोरोना काल में विज्ञान के माध्यम से ही छात्र अपनी पढ़ाई को जारी रख सकते हैं। आज हम लैपटॉप, कंप्यूटर, मोबाइल और इंटरनेट के माध्यम से घर बैठे ही अपने स्कूल की कक्षा ले सकते हैं।

- Ans
- ✓ 1. साथ ही दुनिया भर की जानकारी मोबाइल पर एक क्षण में प्राप्त कर सकते हैं।
  - ✗ 2. साथ ही कुछ गाँवों, शहरों की जानकारी हम मोबाइल पर एक क्षण में प्राप्त कर सकते हैं।
  - ✗ 3. साथ ही दुनिया भर की जानकारी हम मोबाइल पर एक क्षण में प्राप्त कर नहीं सकते हैं।
  - ✗ 4. साथ ही दुनिया भर की जानकारी हम मोबाइल पर कुछ घंटों में प्राप्त कर सकते हैं।

Question ID : 630680938846  
Option 1 ID : 6306803679744  
Option 2 ID : 6306803679745  
Option 3 ID : 6306803679743  
Option 4 ID : 6306803679746

Q.15 निम्नलिखित प्रश्न में, चार विकल्पों में से, उस विकल्प का चयन करें जो दी गई लोकोक्ति का सही अर्थ वाला विकल्प है।

चील के घोंसले में माँस कहाँ

- Ans
- ✓ 1. जहाँ कुछ भी बचने की संभावना न हो
  - ✗ 2. अपनी बुराई नहीं दिखती
  - ✗ 3. काम न जानना और बहाने बनाना
  - ✗ 4. गुण की कदर गुणवानों बीच ही होती है

Question ID : 630680938947  
Option 1 ID : 6306803680129  
Option 2 ID : 6306803680130  
Option 3 ID : 6306803680127  
Option 4 ID : 6306803680128

Q.16 निम्नलिखित प्रश्न में, चार विकल्पों में से, उस सही विकल्प का चयन करें जो वाक्यांश के लिए एक शब्द का विकल्प हो।

जिसकी आँखें मगर जैसी हो

- Ans
- ✗ 1. मृगनयनी
  - ✗ 2. मुमुक्षा
  - ✓ 3. मकरक्ष
  - ✗ 4. मीनाक्षी

Question ID : 630680938939  
Option 1 ID : 6306803680096  
Option 2 ID : 6306803680098  
Option 3 ID : 6306803680097  
Option 4 ID : 6306803680095

Q.17 निम्नलिखित प्रश्न में, चार विकल्पों में से, उस विकल्प का चयन करें जो दिए गए रिक्त स्थान के लिए सही कालवाचक क्रिया विशेषण के रूप वाला विकल्प है।

अब हम सब अभ्यास करने के लिए \_\_\_\_\_ ही मिलेंगे।

- Ans
- ✓ 1. सुबह
  - ✗ 2. फटाफट
  - ✗ 3. ऊपर
  - ✗ 4. ज्यादा

Question ID : 630680938904  
Option 1 ID : 6306803679964  
Option 2 ID : 6306803679963  
Option 3 ID : 6306803679965  
Option 4 ID : 6306803679966

Q.18 दिए गए वाक्य के कोष्ठक वाले भाग में त्रुटि हो सकती है। वह विकल्प चुनें जो इस त्रुटि को ठीक करें।

आदर्श अध्यापक ही (छात्र को प्रत्येक अच्छी आदतों, अच्छी संगति से दूर रखने) का भी प्रयास करें।

- Ans
- ✗ 1. छात्र को प्रत्येक अच्छी बुरी आदतों, परिवार से दूर रखने
  - ✓ 2. छात्र को प्रत्येक बुरी आदतों, बुरी संगति से दूर रखने
  - ✗ 3. छात्र को प्रत्येक अच्छी आदतों, अच्छी संगति से दूर रखने
  - ✗ 4. छात्र को प्रत्येक अच्छी बुरी आदतों, बुरी संगति से नज़दीक रखने

Question ID : 630680938930  
Option 1 ID : 6306803680065  
Option 2 ID : 6306803680066  
Option 3 ID : 6306803680063  
Option 4 ID : 6306803680064

Q.19 दिए गए वाक्य के कोष्ठक वाले भाग में त्रुटि हो सकती है। वह विकल्प चुनें जो इस त्रुटि को ठीक करें।

हमारे घर की और आसपास की सफाई (हमारे स्वास्थ्य पर साथ ही वातावरण में भी साफ रखता है) और इसका प्रथम पाठ हमें हमारे घर से ही मिलता है।

- Ans
- ✗ 1. हमारे स्वास्थ्य पर साथ ही वातावरण में भी साफ रखता है
  - ✗ 2. हमारे स्वास्थ्य को साथ है वातावरण में भी साफ रखता है
  - ✗ 3. कोई त्रुटि नहीं है
  - ✓ 4. हमारे स्वास्थ्य के साथ ही वातावरण को भी साफ रखती है

Question ID : 630680938679  
Option 1 ID : 6306803679108  
Option 2 ID : 6306803679109  
Option 3 ID : 6306803679110  
Option 4 ID : 6306803679107



Q.20 निम्नलिखित विकल्पों में से कौन सा विकल्प एक सुसंगत वाक्य बनाने के लिए वाक्यांशों को सही ढंग से व्यवस्थित करता है?

- A- सफलता प्राप्त करता है
- B- समूह हमेशा एक व्यक्ति
- C- एकजुट रहने वाले लोगों का
- D- की तुलना में अधिक

Ans ☒ 1. CBDA

☒ 2. DACB

☒ 3. CABD

☒ 4. DBAC

Question ID : 630680938724  
Option 1 ID : 6306803679279  
Option 2 ID : 6306803679280  
Option 3 ID : 6306803679281  
Option 4 ID : 6306803679282

Section : Test of Hindi Language and Comprehension 2

Q.1 निम्नलिखित वाक्य में, उस वाक्यांश को पहचानिए जिसमें मात्राओं से संबंधित अशुद्धियाँ हैं। यदि कोई गलती नहीं है तो 'कोई त्रुटि नहीं है' का चुनाव कीजिए।

छुट्टियों में अपने माता-पिता और भाई-बहनों के साथ/ बाहर जाना और हमेशा के लिए उन यादों को/ अपने दिल में संजोए रखना वाकई मजेदार है।

Ans ☒ 1. कोई त्रुटि नहीं है

☒ 2. बाहर जाना और हमेशा के लिए उन यादों को

☒ 3. अपने दिल में संजोए रखना वाकई मजेदार है।

☒ 4. छुट्टियों में अपने माता-पिता और भाई-बहनों के साथ

Question ID : 630680938785  
Option 1 ID : 6306803679514  
Option 2 ID : 6306803679512  
Option 3 ID : 6306803679513  
Option 4 ID : 6306803679511

Q.2 निम्नलिखित प्रश्न में, चार विकल्पों में से, उस विकल्प का चयन करें जो दिए गए शब्द के पर्यायवाची शब्द का सही विकल्प नहीं है।

कछुआ

Ans ☒ 1. कमठ

☒ 2. कुसीद

☒ 3. कच्छप

☒ 4. कूर्म

Question ID : 630680938751  
Option 1 ID : 6306803679383  
Option 2 ID : 6306803679386  
Option 3 ID : 6306803679385  
Option 4 ID : 6306803679384

Q.3 निम्नलिखित प्रश्न में, चार विकल्पों में से, उस विकल्प का चयन करें जो दिए गए शब्द के पर्यायवाची शब्द का सही विकल्प नहीं है।

खरा

- Ans
- ☒ 1. शुद्ध
  - ☒ 2. निशान
  - ☒ 3. निर्दोष
  - ☒ 4. स्वच्छ

Question ID : 630680938795  
Option 1 ID : 6306803679551  
Option 2 ID : 6306803679553  
Option 3 ID : 6306803679554  
Option 4 ID : 6306803679552

Q.4 निम्नलिखित में से, उस विकल्प का चयन करें जो दिए गए शब्द का तद्भव रूप है।

तृण

- Ans
- ☒ 1. तुंद
  - ☒ 2. तिनका
  - ☒ 3. तैल
  - ☒ 4. त्वरित

Question ID : 630680938873  
Option 1 ID : 6306803679847  
Option 2 ID : 6306803679848  
Option 3 ID : 6306803679850  
Option 4 ID : 6306803679849

Q.5 निम्नलिखित प्रश्न में, चार विकल्पों में से, उस विकल्प का चयन करें जो दिए गए शब्द के विलोम शब्द का विकल्प है।

स्वजाति

- Ans
- ☒ 1. वरिष्ठ
  - ☒ 2. वंश
  - ☒ 3. विजाति
  - ☒ 4. विराग

Question ID : 630680939004  
Option 1 ID : 6306803680348  
Option 2 ID : 6306803680350  
Option 3 ID : 6306803680347  
Option 4 ID : 6306803680349

Q.6 निम्नलिखित चार विकल्पों में से, उस विकल्प का चयन करें जो दिए गए शब्द का अनेकार्थी है।

कंटक

- Ans
- ☒ 1. दोष
  - ☒ 2. कमरा
  - ☒ 3. घड़ियाल
  - ☒ 4. काँटा

Question ID : 630680938917  
Option 1 ID : 6306803680016  
Option 2 ID : 6306803680015  
Option 3 ID : 6306803680018  
Option 4 ID : 6306803680017

Q.7 निम्नलिखित में से, उस विकल्प का चयन करें जो दिए गए शब्द का विलोमार्थी है।

अवनति

- Ans
- ☒ 1. उन्नति
  - ☒ 2. निर्जल
  - ☒ 3. अभिज्ञ
  - ☒ 4. प्रतियोगी

Question ID : 630680938836  
Option 1 ID : 6306803679710  
Option 2 ID : 6306803679707  
Option 3 ID : 6306803679708  
Option 4 ID : 6306803679709

Q.8 निम्नलिखित वाक्य के अशुद्ध वाक्यांश को पहचानिए यदि कोई अशुद्धि नहीं है तो 'कोई त्रुटि नहीं है' का चयन कीजिए

यह भ्रम इस तरह से फैला हुआ है कि लोग रक्तदान करने से पीछे/ हट जाते हैं और यहाँ तक की अपने परिजनों को भी रक्तदान ना/ करने की सलाह देने लगते हैं।

- Ans
- ☒ 1. करने की सलाह देने लगते हैं।
  - ☒ 2. यह भ्रम इस तरह से फैला हुआ है कि लोग रक्तदान करने से पीछे
  - ☒ 3. कोई त्रुटि नहीं है
  - ☒ 4. हट जाते हैं और यहाँ तक की अपने परिजनों को भी रक्तदान ना

Question ID : 630680938869  
Option 1 ID : 6306803679833  
Option 2 ID : 6306803679831  
Option 3 ID : 6306803679834  
Option 4 ID : 6306803679832

Q.9 निम्नलिखित चार विकल्पों में से, उस विकल्प का चयन करें जो दिए गए शब्द का अनेकार्थी नहीं है।

अरिष्ट

- Ans
- ☒ 1. लहसुन
  - ☒ 2. कष्ट
  - ☒ 3. रसहीन
  - ☒ 4. दुर्भाग्य

Question ID : 630680938874  
Option 1 ID : 6306803679853  
Option 2 ID : 6306803679851  
Option 3 ID : 6306803679854  
Option 4 ID : 6306803679852

Q.10 निम्नलिखित प्रश्न में, चार विकल्पों में से, उस विकल्प का चयन करें जो दिए गए शब्द के तद्भव रूप वाला सही विकल्प है।

दंष्ट

- Ans
- ☒ 1. दाहिना
  - ☒ 2. दुर्बल
  - ☒ 3. डंका
  - ☒ 4. दुपट्टा

Question ID : 630680938748  
Option 1 ID : 6306803679371  
Option 2 ID : 6306803679374  
Option 3 ID : 6306803679372  
Option 4 ID : 6306803679373

Comprehension:

नीचे दिए गये गद्यांश में कुछ शब्द छोड़ दिये गए हैं गद्यांश को ध्यानपूर्वक पढ़ें और दिये गए प्रश्नों का उत्तर दें।

विज्ञान से हमें अनेक लाभ प्राप्त हुए हैं। विज्ञान ने मानव का जीवन पहले के मुकाबले बेहद \_\_\_\_\_ बना दिया है। एक समय था जब मानव का जीवन बहुत कठिन था, परन्तु मानव ने अपने सामने आने वाली कठिनाइयों पर, विज्ञान की मदद से \_\_\_\_\_ प्राप्त की है। मानव ने कष्ट देने वाले रोगों से लेकर विश्व के प्रत्येक जीव को विज्ञान के चमत्कार के माध्यम से नियंत्रण करने का प्रयास किया है। विज्ञान के माध्यम से ही आज हम टेक्नोलॉजी से जुड़ पाए हैं, जिसका उपयोग हम समाज के \_\_\_\_\_ और आम जन-जीवन को सरल बनाने के लिए करते हैं। आज के दौर में हम जो कुछ भी करते, देखते या सीखते हैं उसमें कहीं न कहीं विज्ञान का योगदान है। कहते हैं ना कि हर सिक्के के दो पहलू होते हैं। ठीक उसी तरह, विज्ञान के चमत्कार का सकारात्मक पक्ष भी है और \_\_\_\_\_ भी है। जहाँ विज्ञान ने मानव जाति का जीवन सरल किया है वहीं इसने मानव के विनाश का मार्ग भी प्रशस्त किया है। मानव ने बड़े-बड़े हथियार बनाए हैं। जिसने हमारी प्रकृति और पर्यावरण को नष्ट करने में महत्वपूर्ण \_\_\_\_\_ निभाई है।

SubQuestion No : 11

Q.11 विज्ञान ने मानव का जीवन पहले के मुकाबले बेहद \_\_\_\_\_ बना दिया है।

- Ans
- ☒ 1. आसान
  - ☒ 2. कठिन
  - ☒ 3. दुष्कर
  - ☒ 4. महंगा

Question ID : 630680938851  
Option 1 ID : 6306803679762  
Option 2 ID : 6306803679761  
Option 3 ID : 6306803679759  
Option 4 ID : 6306803679760

**Comprehension:**

नीचे दिए गये गद्यांश में कुछ शब्द छोड़ दिये गए हैं गद्यांश को ध्यानपूर्वक पढ़ें और दिये गए प्रश्नों का उत्तर दें।

विज्ञान से हमें अनेक लाभ प्राप्त हुए हैं। विज्ञान ने मानव का जीवन पहले के मुकाबले बेहद \_\_\_\_\_ बना दिया है। एक समय था जब मानव का जीवन बहुत कठिन था, परन्तु मानव ने अपने सामने आने वाली कठिनाइयों पर, विज्ञान की मदद से \_\_\_\_\_ प्राप्त की है। मानव ने कष्ट देने वाले रोगों से लेकर विश्व के प्रत्येक जीव को विज्ञान के चमत्कार के माध्यम से नियंत्रण करने का प्रयास किया है। विज्ञान के माध्यम से ही आज हम टेक्नोलॉजी से जुड़ पाए हैं, जिसका उपयोग हम समाज के \_\_\_\_\_ और आम जन-जीवन को सरल बनाने के लिए करते हैं। आज के दौर में हम जो कुछ भी करते, देखते या सीखते हैं उसमें कहीं न कहीं विज्ञान का योगदान है। कहते हैं ना कि हर सिक्के के दो पहलू होते हैं। ठीक उसी तरह, विज्ञान के चमत्कार का सकारात्मक पक्ष भी है और \_\_\_\_\_ भी है। जहाँ विज्ञान ने मानव जाति का जीवन सरल किया है वहीं इसने मानव के विनाश का मार्ग भी प्रशस्त किया है। मानव ने बड़े-बड़े हथियार बनाए हैं। जिसने हमारी प्रकृति और पर्यावरण को नष्ट करने में महत्वपूर्ण \_\_\_\_\_ निभाई है।

**SubQuestion No : 12**

**Q.12 मानव ने अपने सामने आने वाली कठिनाइयों पर, विज्ञान की मदद से \_\_\_\_\_ प्राप्त की है।**

- Ans ☒ 1. रुकावटें  
☒ 2. रोकटोक  
☒ 3. विपत्ति  
☒ 4. विजय

Question ID : 630680938852  
Option 1 ID : 6306803679766  
Option 2 ID : 6306803679765  
Option 3 ID : 6306803679764  
Option 4 ID : 6306803679763

**Comprehension:**

नीचे दिए गये गद्यांश में कुछ शब्द छोड़ दिये गए हैं गद्यांश को ध्यानपूर्वक पढ़ें और दिये गए प्रश्नों का उत्तर दें।

विज्ञान से हमें अनेक लाभ प्राप्त हुए हैं। विज्ञान ने मानव का जीवन पहले के मुकाबले बेहद \_\_\_\_\_ बना दिया है। एक समय था जब मानव का जीवन बहुत कठिन था, परन्तु मानव ने अपने सामने आने वाली कठिनाइयों पर, विज्ञान की मदद से \_\_\_\_\_ प्राप्त की है। मानव ने कष्ट देने वाले रोगों से लेकर विश्व के प्रत्येक जीव को विज्ञान के चमत्कार के माध्यम से नियंत्रण करने का प्रयास किया है। विज्ञान के माध्यम से ही आज हम टेक्नोलॉजी से जुड़ पाए हैं, जिसका उपयोग हम समाज के \_\_\_\_\_ और आम जन-जीवन को सरल बनाने के लिए करते हैं। आज के दौर में हम जो कुछ भी करते, देखते या सीखते हैं उसमें कहीं न कहीं विज्ञान का योगदान है। कहते हैं ना कि हर सिक्के के दो पहलू होते हैं। ठीक उसी तरह, विज्ञान के चमत्कार का सकारात्मक पक्ष भी है और \_\_\_\_\_ भी है। जहाँ विज्ञान ने मानव जाति का जीवन सरल किया है वहीं इसने मानव के विनाश का मार्ग भी प्रशस्त किया है। मानव ने बड़े-बड़े हथियार बनाए हैं। जिसने हमारी प्रकृति और पर्यावरण को नष्ट करने में महत्वपूर्ण \_\_\_\_\_ निभाई है।

**SubQuestion No : 13**

**Q.13 विज्ञान के माध्यम से ही आज हम टेक्नोलॉजी से जुड़ पाए हैं, जिसका उपयोग हम समाज के \_\_\_\_\_ और आम जन-जीवन को सरल बनाने के लिए करते हैं।**

- Ans ☒ 1. उत्पन्न  
☒ 2. विकास  
☒ 3. प्रयोग  
☒ 4. विनाश

Question ID : 630680938853  
Option 1 ID : 6306803679769  
Option 2 ID : 6306803679768  
Option 3 ID : 6306803679770  
Option 4 ID : 6306803679767

**Comprehension:**

नीचे दिए गये गद्यांश में कुछ शब्द छोड़ दिये गए हैं गद्यांश को ध्यानपूर्वक पढ़ें और दिये गए प्रश्नों का उत्तर दें।

विज्ञान से हमें अनेक लाभ प्राप्त हुए हैं। विज्ञान ने मानव का जीवन पहले के मुकाबले बेहद \_\_\_\_\_ बना दिया है। एक समय था जब मानव का जीवन बहुत कठिन था, परन्तु मानव ने अपने सामने आने वाली कठिनाइयों पर, विज्ञान की मदद से \_\_\_\_\_ प्राप्त की है। मानव ने कष्ट देने वाले रोगों से लेकर विश्व के प्रत्येक जीव को विज्ञान के चमत्कार के माध्यम से नियंत्रण करने का प्रयास किया है। विज्ञान के माध्यम से ही आज हम टेक्नोलॉजी से जुड़ पाए हैं, जिसका उपयोग हम समाज के \_\_\_\_\_ और आम जन-जीवन को सरल बनाने के लिए करते हैं। आज के दौर में हम जो कुछ भी करते, देखते या सीखते हैं उसमें कहीं न कहीं विज्ञान का योगदान है। कहते हैं ना कि हर सिक्के के दो पहलू होते हैं। ठीक उसी तरह, विज्ञान के चमत्कार का सकारात्मक पक्ष भी है और \_\_\_\_\_ भी है। जहाँ विज्ञान ने मानव जाति का जीवन सरल किया है वहीं इसने मानव के विनाश का मार्ग भी प्रशस्त किया है। मानव ने बड़े-बड़े हथियार बनाए हैं। जिसने हमारी प्रकृति और पर्यावरण को नष्ट करने में महत्वपूर्ण \_\_\_\_\_ निभाई है।

**SubQuestion No : 14**

**Q.14** कहते हैं न कि हर सिक्के के दो पहलू होते हैं। ठीक उसी तरह, विज्ञान के चमत्कार का सकारात्मक पक्ष भी है और \_\_\_\_\_ भी।

- Ans
- ☒ 1. सीधा
  - ☒ 2. प्रयोग
  - ☒ 3. नकारात्मक
  - ☒ 4. ज्यादा

Question ID : 630680938854  
Option 1 ID : 6306803679771  
Option 2 ID : 6306803679774  
Option 3 ID : 6306803679773  
Option 4 ID : 6306803679772

**Comprehension:**

नीचे दिए गये गद्यांश में कुछ शब्द छोड़ दिये गए हैं गद्यांश को ध्यानपूर्वक पढ़ें और दिये गए प्रश्नों का उत्तर दें।

विज्ञान से हमें अनेक लाभ प्राप्त हुए हैं। विज्ञान ने मानव का जीवन पहले के मुकाबले बेहद \_\_\_\_\_ बना दिया है। एक समय था जब मानव का जीवन बहुत कठिन था, परन्तु मानव ने अपने सामने आने वाली कठिनाइयों पर, विज्ञान की मदद से \_\_\_\_\_ प्राप्त की है। मानव ने कष्ट देने वाले रोगों से लेकर विश्व के प्रत्येक जीव को विज्ञान के चमत्कार के माध्यम से नियंत्रण करने का प्रयास किया है। विज्ञान के माध्यम से ही आज हम टेक्नोलॉजी से जुड़ पाए हैं, जिसका उपयोग हम समाज के \_\_\_\_\_ और आम जन-जीवन को सरल बनाने के लिए करते हैं। आज के दौर में हम जो कुछ भी करते, देखते या सीखते हैं उसमें कहीं न कहीं विज्ञान का योगदान है। कहते हैं ना कि हर सिक्के के दो पहलू होते हैं। ठीक उसी तरह, विज्ञान के चमत्कार का सकारात्मक पक्ष भी है और \_\_\_\_\_ भी है। जहाँ विज्ञान ने मानव जाति का जीवन सरल किया है वहीं इसने मानव के विनाश का मार्ग भी प्रशस्त किया है। मानव ने बड़े-बड़े हथियार बनाए हैं। जिसने हमारी प्रकृति और पर्यावरण को नष्ट करने में महत्वपूर्ण \_\_\_\_\_ निभाई है।

**SubQuestion No : 15**

**Q.15** जिसने हमारी प्रकृति और पर्यावरण को नष्ट करने में महत्वपूर्ण \_\_\_\_\_ निभाई है।

- Ans
- ☒ 1. भूमिका
  - ☒ 2. जोड़ी
  - ☒ 3. खर्चा
  - ☒ 4. बातें

Question ID : 630680938855  
Option 1 ID : 6306803679776  
Option 2 ID : 6306803679777  
Option 3 ID : 6306803679775  
Option 4 ID : 6306803679778

**Comprehension:**

नीचे दिए गये गद्यांश के बाद 5 प्रश्न दिए गये हैं। इस गद्यांश को ध्यानपूर्वक पढ़ें और चार विकल्पों में से प्रत्येक प्रश्न का सर्वोत्तम उत्तर चुनें।

किसी भी विद्यार्थी के जीवन में समय का मूल्य बहुत अधिक होता है, क्योंकि वह अपने इसी जीवन में सही और गलत की पहचान को समझने की शुरुआत करता है। विद्यार्थी को समयनिष्ठ और अनुशासित होना बहुत ज़रूरी है। अगर हम समय के बारे में जानकारी रखते हैं, तो हमें समय के महत्व के बारे में दूसरे लोगों को भी जागरूक करना चाहिए। जब हम विद्यार्थी जीवन में अपने इस अनमोल समय के बारे में जान लेते हैं, तो हम अपने समय का सदुपयोग कर अपने जीवन में सफलता प्राप्त कर सकते हैं। जो व्यक्ति समय का महत्व जान लेता है फिर वह कभी भी अपने काम को टालता नहीं है। वह अपना हर काम समय पर पूरा करने की पूरी कोशिश करता है। किसी भी व्यक्ति का जन्म महान इंसान के रूप में नहीं होता है बल्कि वह समय के महत्व को समय रहते समझता है और समय का सही उपयोग करके ही महान बनता है। इसीलिए ही ऐसे लोग अपने जीवन में सफलता प्राप्त करते हैं। अगर हम भी समय का महत्व जानकर अपना काम समय पर पूरा कर लें, तो हमें भी सफलता ज़रूर मिलेगी।

**SubQuestion No : 16**

**Q.16 निम्नलिखित प्रश्न में, चार विकल्पों में से, उस विकल्प का चयन करें जो दिए गए शब्द के विलोम शब्द का विकल्प है।**

**जागरूक**

- Ans ☒ 1. होशियार  
☒ 2. उत्साहित  
☒ 3. बेखबर  
☒ 4. प्रसिद्ध

Question ID : 630680938718  
Option 1 ID : 6306803679256  
Option 2 ID : 6306803679255  
Option 3 ID : 6306803679258  
Option 4 ID : 6306803679257

**Comprehension:**

नीचे दिए गये गद्यांश के बाद 5 प्रश्न दिए गये हैं। इस गद्यांश को ध्यानपूर्वक पढ़ें और चार विकल्पों में से प्रत्येक प्रश्न का सर्वोत्तम उत्तर चुनें।

किसी भी विद्यार्थी के जीवन में समय का मूल्य बहुत अधिक होता है, क्योंकि वह अपने इसी जीवन में सही और गलत की पहचान को समझने की शुरुआत करता है। विद्यार्थी को समयनिष्ठ और अनुशासित होना बहुत ज़रूरी है। अगर हम समय के बारे में जानकारी रखते हैं, तो हमें समय के महत्व के बारे में दूसरे लोगों को भी जागरूक करना चाहिए। जब हम विद्यार्थी जीवन में अपने इस अनमोल समय के बारे में जान लेते हैं, तो हम अपने समय का सदुपयोग कर अपने जीवन में सफलता प्राप्त कर सकते हैं। जो व्यक्ति समय का महत्व जान लेता है फिर वह कभी भी अपने काम को टालता नहीं है। वह अपना हर काम समय पर पूरा करने की पूरी कोशिश करता है। किसी भी व्यक्ति का जन्म महान इंसान के रूप में नहीं होता है बल्कि वह समय के महत्व को समय रहते समझता है और समय का सही उपयोग करके ही महान बनता है। इसीलिए ही ऐसे लोग अपने जीवन में सफलता प्राप्त करते हैं। अगर हम भी समय का महत्व जानकर अपना काम समय पर पूरा कर लें, तो हमें भी सफलता ज़रूर मिलेगी।

**SubQuestion No : 17**

**Q.17 अनुच्छेद के अनुसार समय के महत्व को समय रहते समझने का क्या परिणाम होता है?**

- Ans ☒ 1. व्यक्ति को बहुत काम मिलता है  
☒ 2. व्यक्ति उपयोगी बनता है  
☒ 3. व्यक्ति महान बनता है  
☒ 4. व्यक्ति बुद्धिमान बनता है

Question ID : 630680938716  
Option 1 ID : 6306803679249  
Option 2 ID : 6306803679250  
Option 3 ID : 6306803679248  
Option 4 ID : 6306803679247

**Comprehension:**

नीचे दिए गये गद्यांश के बाद 5 प्रश्न दिए गये हैं। इस गद्यांश को ध्यानपूर्वक पढ़ें और चार विकल्पों में से प्रत्येक प्रश्न का सर्वोत्तम उत्तर चुनें।

किसी भी विद्यार्थी के जीवन में समय का मूल्य बहुत अधिक होता है, क्योंकि वह अपने इसी जीवन में सही और गलत की पहचान को समझने की शुरुआत करता है। विद्यार्थी को समयनिष्ठ और अनुशासित होना बहुत ज़रूरी है। अगर हम समय के बारे में जानकारी रखते हैं, तो हमें समय के महत्व के बारे में दूसरे लोगों को भी जागरूक करना चाहिए। जब हम विद्यार्थी जीवन में अपने इस अनमोल समय के बारे में जान लेते हैं, तो हम अपने समय का सदुपयोग कर अपने जीवन में सफलता प्राप्त कर सकते हैं। जो व्यक्ति समय का महत्व जान लेता है फिर वह कभी भी अपने काम को टालता नहीं है। वह अपना हर काम समय पर पूरा करने की पूरी कोशिश करता है। किसी भी व्यक्ति का जन्म महान इंसान के रूप में नहीं होता है बल्कि वह समय के महत्व को समय रहते समझता है और समय का सही उपयोग करके ही महान बनता है। इसीलिए ही ऐसे लोग अपने जीवन में सफलता प्राप्त करते हैं। अगर हम भी समय का महत्व जानकर अपना काम समय पर पूरा कर लें, तो हमें भी सफलता ज़रूर मिलेगी।

**SubQuestion No : 18**

**Q.18 अनुच्छेद के अनुसार विद्यार्थी जीवन में समय की महत्ता के बारे में जानना आवश्यक क्यों है?**

- Ans
- ☒ 1. दूसरों को पीछे करने के लिए
  - ☒ 2. समय का उपयोग करने के लिए
  - ☒ 3. सबकी जानकारी रखने के लिए
  - ☒ 4. जीवन में सफलता प्राप्त करने के लिए

Question ID : 630680938715  
Option 1 ID : 6306803679243  
Option 2 ID : 6306803679244  
Option 3 ID : 6306803679246  
Option 4 ID : 6306803679245

**Comprehension:**

नीचे दिए गये गद्यांश के बाद 5 प्रश्न दिए गये हैं। इस गद्यांश को ध्यानपूर्वक पढ़ें और चार विकल्पों में से प्रत्येक प्रश्न का सर्वोत्तम उत्तर चुनें।

किसी भी विद्यार्थी के जीवन में समय का मूल्य बहुत अधिक होता है, क्योंकि वह अपने इसी जीवन में सही और गलत की पहचान को समझने की शुरुआत करता है। विद्यार्थी को समयनिष्ठ और अनुशासित होना बहुत ज़रूरी है। अगर हम समय के बारे में जानकारी रखते हैं, तो हमें समय के महत्व के बारे में दूसरे लोगों को भी जागरूक करना चाहिए। जब हम विद्यार्थी जीवन में अपने इस अनमोल समय के बारे में जान लेते हैं, तो हम अपने समय का सदुपयोग कर अपने जीवन में सफलता प्राप्त कर सकते हैं। जो व्यक्ति समय का महत्व जान लेता है फिर वह कभी भी अपने काम को टालता नहीं है। वह अपना हर काम समय पर पूरा करने की पूरी कोशिश करता है। किसी भी व्यक्ति का जन्म महान इंसान के रूप में नहीं होता है बल्कि वह समय के महत्व को समय रहते समझता है और समय का सही उपयोग करके ही महान बनता है। इसीलिए ही ऐसे लोग अपने जीवन में सफलता प्राप्त करते हैं। अगर हम भी समय का महत्व जानकर अपना काम समय पर पूरा कर लें, तो हमें भी सफलता ज़रूर मिलेगी।

**SubQuestion No : 19**

**Q.19 इस अनुच्छेद का कोई उपयुक्त शीर्षक-**

- Ans
- ☒ 1. महान सफलता
  - ☒ 2. गलत की पहचान
  - ☒ 3. समय का महत्व
  - ☒ 4. विद्यार्थी जीवन

Question ID : 630680938714  
Option 1 ID : 6306803679242  
Option 2 ID : 6306803679241  
Option 3 ID : 6306803679240  
Option 4 ID : 6306803679239



**Comprehension:**

नीचे दिए गये गद्यांश के बाद 5 प्रश्न दिए गये हैं। इस गद्यांश को ध्यानपूर्वक पढ़ें और चार विकल्पों में से प्रत्येक प्रश्न का सर्वोत्तम उत्तर चुनें।

किसी भी विद्यार्थी के जीवन में समय का मूल्य बहुत अधिक होता है, क्योंकि वह अपने इसी जीवन में सही और गलत की पहचान को समझने की शुरुआत करता है। विद्यार्थी को समयनिष्ठ और अनुशासित होना बहुत ज़रूरी है। अगर हम समय के बारे में जानकारी रखते हैं, तो हमें समय के महत्व के बारे में दूसरे लोगों को भी जागरूक करना चाहिए। जब हम विद्यार्थी जीवन में अपने इस अनमोल समय के बारे में जान लेते हैं, तो हम अपने समय का सदुपयोग कर अपने जीवन में सफलता प्राप्त कर सकते हैं। जो व्यक्ति समय का महत्व जान लेता है फिर वह कभी भी अपने काम को टालता नहीं है। वह अपना हर काम समय पर पूरा करने की पूरी कोशिश करता है। किसी भी व्यक्ति का जन्म महान इंसान के रूप में नहीं होता है बल्कि वह समय के महत्व को समय रहते समझता है और समय का सही उपयोग करके ही महान बनता है। इसीलिए ही ऐसे लोग अपने जीवन में सफलता प्राप्त करते हैं। अगर हम भी समय का महत्व जानकर अपना काम समय पर पूरा कर लें, तो हमें भी सफलता ज़रूर मिलेगी।

**SubQuestion No : 20**

**Q.20** निम्नलिखित प्रश्न में, चार विकल्पों में से, उस विकल्प का चयन करें जो दिए गए शब्द के पर्यायवाची शब्द का विकल्प नहीं है।

**महान**

- Ans**
- ☒ 1. श्रेष्ठ
  - ☒ 2. विशाल
  - ☒ 3. संकीर्ण
  - ☒ 4. सर्वोच्च

Question ID : 630680938717  
Option 1 ID : 6306803679252  
Option 2 ID : 6306803679253  
Option 3 ID : 6306803679251  
Option 4 ID : 6306803679254