

Question Paper Preview

Notations :

- 1.Options shown in green color and with ✓ icon are correct.
- 2.Options shown in red color and with ✗ icon are incorrect.

Question Paper Name:	PGT GEOGRAPHY MALE 26th July 2018 Shift2
Subject Name:	PGT GEOGRAPHY MALE
Creation Date:	2018-07-26 18:28:28
Duration:	180
Total Marks:	300
Display Marks:	Yes
Share Answer Key With Delivery Engine:	Yes
Actual Answer Key:	Yes
Calculator:	None
Magnifying Glass Required?:	No
Ruler Required?:	No
Eraser Required?:	No
Scratch Pad Required?:	No
Rough Sketch/Notepad Required?:	No
Protractor Required?:	No

Group Number :	1
Group Id :	167943312
Group Maximum Duration :	0
Group Minimum Duration :	0
Revisit allowed for view? :	No
Revisit allowed for edit? :	No
Break time:	0
Group Marks:	20

Mental Ability

Section Id :	167943371
Section Number :	1
Section type :	Online
Mandatory or Optional:	Mandatory
Number of Questions:	20
Number of Questions to be attempted:	20
Section Marks:	20
Display Number Panel:	Yes
Group All Questions:	No

Mental Ability

Test Prime

**ALL EXAMS,
ONE SUBSCRIPTION**



70,000+
Mock Tests



**Personalised
Report Card**



**Unlimited
Re-Attempt**



600+
Exam Covered



**Previous Year
Papers**



**500%
Refund**



ATTEMPT FREE MOCK NOW

Sub-Section Id: 167943659
Question Shuffling Allowed : Yes

Question Number : 1 Question Id : 16794310603 Question Type : MCQ Option Shuffling : Yes Display Question Number : Yes
Single Line Question Option : No Option Orientation : Vertical

Correct : 1 Wrong : 0.25

Introducing Vikram, Harish said, "His mother is the wife of my father's son. Brothers and sisters I have none". How is Vikram related to Harish?

Options :

- ☒ Son
- ☐ Father
- ☐ Uncle
- ☐ Grand father

Question Number : 1 Question Id : 16794310603 Question Type : MCQ Option Shuffling : Yes Display Question Number : Yes
Single Line Question Option : No Option Orientation : Vertical

Correct : 1 Wrong : 0.25

विक्रम का परिचय देते हुए हरीश ने कहा, "उसकी मां मेरे पिता के बेटे की पत्नी है। मेरे कोई भाई या बहन नहीं है"।
विक्रम हरीश से कैसे संबंधित है?

Options :

- ☒ बेटा
- ☐ पिता
- ☐ चाचा
- ☐ दादा

Question Number : 2 Question Id : 16794310604 Question Type : MCQ Option Shuffling : Yes Display Question Number : Yes
Single Line Question Option : No Option Orientation : Vertical

Correct : 1 Wrong : 0.25

If South-East becomes North, North-East becomes West and so on, what will West become?

Options :

- ☐ North-East
- ☒ South-East
- ☐ North-West
- ☐ South-West

Question Number : 2 Question Id : 16794310604 Question Type : MCQ Option Shuffling : Yes Display Question Number : Yes
Single Line Question Option : No Option Orientation : Vertical

Correct : 1 Wrong : 0.25

यदि दक्षिण-पूर्व उत्तर है, उत्तर-पूर्व पश्चिम है और ऐसे ही आगे, तो पश्चिम क्या है?

Options :

- ☐ उत्तर-पूर्व
- ☒ दक्षिण-पूर्व
- ☐ उत्तर-पश्चिम
- ☐ दक्षिण-पश्चिम

Question Number : 3 Question Id : 16794310605 Question Type : MCQ Option Shuffling : Yes Display Question Number : Yes
Single Line Question Option : No Option Orientation : Vertical

Correct : 1 Wrong : 0.25

Select the option that is related to the third term in the same way as the second term is related to the first term.

ENERGY : JOULE :: FORCE : _____

Options :

- ☐ AMPERE
- ☐ VOLT
- ☐ WATT
- ☒ NEWTON

Question Number : 3 Question Id : 16794310605 Question Type : MCQ Option Shuffling : Yes Display Question Number : Yes
Single Line Question Option : No Option Orientation : Vertical

Correct : 1 Wrong : 0.25

उस विकल्प का चयन करें जो तीसरे शब्द से उसी तरह संबंधित है, जैसे दूसरा शब्द पहले शब्द से संबंधित है।

ऊर्जा : जूल :: बल : _____

Options :

- ☐ एम्पियर
- ☐ वोल्ट
- ☐ वाट

✓ न्यूटन

Question Number : 4 Question Id : 16794310606 Question Type : MCQ Option Shuffling : Yes Display Question Number : Yes
Single Line Question Option : No Option Orientation : Vertical

Correct : 1 Wrong : 0.25

Choose the odd one from the following.

Options :

✗ Bleat

✗ Mew

✓ Cub

✗ Bark

Question Number : 4 Question Id : 16794310606 Question Type : MCQ Option Shuffling : Yes Display Question Number : Yes
Single Line Question Option : No Option Orientation : Vertical

Correct : 1 Wrong : 0.25

निम्नलिखित में से विषम चुनें।

Options :

✗ मिमियाहट

✗ बिल्ली की बोली

✓ पशुशावक

✗ भौंकना

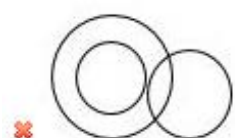
Question Number : 5 Question Id : 16794310607 Question Type : MCQ Option Shuffling : Yes Display Question Number : Yes
Single Line Question Option : No Option Orientation : Vertical

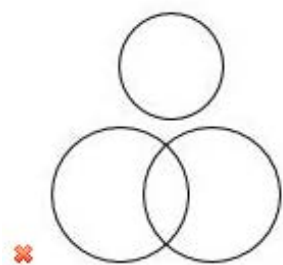
Correct : 1 Wrong : 0.25

Statement: Some of the actors are cricket players, some cricket players are singers, no actor is a singer.

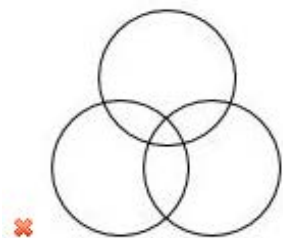
Which of the following diagrams correctly represents the above statement?

Options :

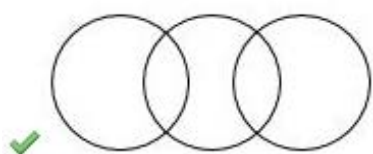




✗



✗



✓

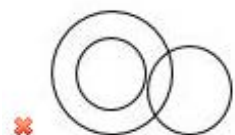
Question Number : 5 Question Id : 16794310607 Question Type : MCQ Option Shuffling : Yes Display Question Number : Yes
Single Line Question Option : No Option Orientation : Vertical

Correct : 1 Wrong : 0.25

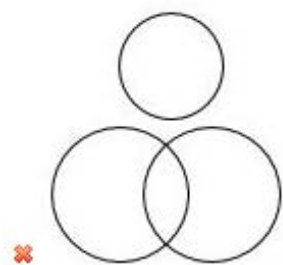
विधान: कुछ अभिनेता क्रिकेट खिलाड़ी हैं, कुछ क्रिकेट खिलाड़ी गायक हैं, कोई अभिनेता गायक नहीं है।

निम्नलिखित में से कौन सी आकृति उपरोक्त विधान का सही रूप से प्रतिनिधित्व करती है?

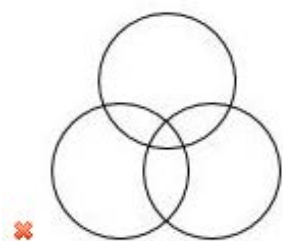
Options :



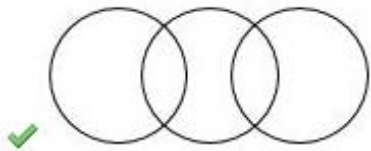
✗



✗



✗



Question Number : 6 Question Id : 16794310608 Question Type : MCQ Option Shuffling : Yes Display Question Number : Yes
Single Line Question Option : No Option Orientation : Vertical

Correct : 1 Wrong : 0.25

In a certain code, DELHI is coded as CDKGH. How would you code MUMBAI in that code language?

Options :

✓ LTLAZH

✗ LTLCZH

✗ LTNAZH

✗ LTLABH

Question Number : 6 Question Id : 16794310608 Question Type : MCQ Option Shuffling : Yes Display Question Number : Yes
Single Line Question Option : No Option Orientation : Vertical

Correct : 1 Wrong : 0.25

किसी सांकेतिक भाषा में, DELHI को CDKGH लिखा जाता है। उसी भाषा में MUMBAI को कैसे लिखा जाएगा?

Options :

✓ LTLAZH

✗ LTLCZH

✗ LTNAZH

✗ LTLABH

Question Number : 7 Question Id : 16794310609 Question Type : MCQ Option Shuffling : Yes Display Question Number : Yes
Single Line Question Option : No Option Orientation : Vertical

Correct : 1 Wrong : 0.25

Which of the following words will come third in the English dictionary?

Options :

✗ Mango

✓ Magnet

✗ Magnesium

✖ Magician

Question Number : 7 Question Id : 16794310609 Question Type : MCQ Option Shuffling : Yes Display Question Number : Yes
Single Line Question Option : No Option Orientation : Vertical

Correct : 1 Wrong : 0.25

अंग्रेजी शब्दकोष अनुसार निम्नलिखित में से कौन सा शब्द तीसरा होगा?

Options :

✖ Mango

✔ Magnet

✖ Magnesium

✖ Magician

Question Number : 8 Question Id : 16794310610 Question Type : MCQ Option Shuffling : Yes Display Question Number : Yes
Single Line Question Option : No Option Orientation : Vertical

Correct : 1 Wrong : 0.25

How many such pairs of digits are there in the number 531268947, each of which has as many digits between them in the number as they have, when they are arranged in a descending order?

Options :

✖ 1

✖ 2

✖ 4

✔ 6

Question Number : 8 Question Id : 16794310610 Question Type : MCQ Option Shuffling : Yes Display Question Number : Yes
Single Line Question Option : No Option Orientation : Vertical

Correct : 1 Wrong : 0.25

531268947 संख्या में ऐसे कितने अंकों के जोड़े हैं, जिन्हें उतरते क्रम में व्यवस्थापित करने के बाद उनके बीच उतने ही अंक होंगे जितने अंक उनके बीच संख्या में हैं?

Options :

✖ 1

✖ 2

✖ 4

✓ 6

Question Number : 9 Question Id : 16794310611 Question Type : MCQ Option Shuffling : Yes Display Question Number : Yes
Single Line Question Option : No Option Orientation : Vertical

Correct : 1 Wrong : 0.25

A courier boy was returning to his courier office which was in front of him to the north. When the courier office was 100 metres away from him, he turned to the left and moved 50 metres to deliver the last courier at Gandhi street. He then moved in the same direction for 40 metres, turned to his right and moved 100metres. How many metres is he away from the courier office now?

Options :

✗ 10 metres

✗ 25 metres

✓ 90 metres

✗ 100 metres

Question Number : 9 Question Id : 16794310611 Question Type : MCQ Option Shuffling : Yes Display Question Number : Yes
Single Line Question Option : No Option Orientation : Vertical

Correct : 1 Wrong : 0.25

एक कूरियर वाला लड़का अपने कूरियर कार्यालय में लौट रहा था जो उसके सामने उत्तर दिशा में था। जब कूरियर ऑफिस से वह 100 मीटर दूर था, तो वह बायीं ओर मुड़ा और गांधी स्ट्रीट में अंतिम कूरियर देने के लिए 50 मीटर दूर गया। फिर वह 40 मीटर उसी दिशा में चला, अपने दाहिने ओर मुड़ा और 100 मीटर आगे गया। अभी वह कूरियर ऑफिस से कितने मीटर दूर था?

Options :

✗ 10 मीटर

✗ 25 मीटर

✓ 90 मीटर

✗ 100 मीटर

Question Number : 10 Question Id : 16794310612 Question Type : MCQ Option Shuffling : Yes Display Question Number : Yes
Single Line Question Option : No Option Orientation : Vertical

Correct : 1 Wrong : 0.25

Which one of the following four interchanges in signs and numbers given in the options would make the given equation correct?

$$(12 \div 4) + 8 = 5$$

Options :

✓ + and \div , 4 and 8

✘ + and \div , 12 and 4

✘ + and \div , 12 and 8

✘ + and \div

Question Number : 10 Question Id : 16794310612 Question Type : MCQ Option Shuffling : Yes Display Question Number : Yes
Single Line Question Option : No Option Orientation : Vertical

Correct : 1 Wrong : 0.25

निम्नलिखित विकल्पों में दिए गए संकेत और संख्याओं के चार परिवर्तनों में से किसके प्रयोग से दिया हुआ समीकरण सही होगा?

$$(12 \div 4) + 8 = 5$$

Options :

✔ + और \div , 4 और 8

✘ + और \div , 12 और 4

✘ + और \div , 12 और 8

✘ + और \div

Question Number : 11 Question Id : 16794310613 Question Type : MCQ Option Shuffling : Yes Display Question Number : Yes
Single Line Question Option : No Option Orientation : Vertical

Correct : 1 Wrong : 0.25

'Paper' is related to 'Pulp', in the same way as 'Shoes' is related to _____.

Options :

✘ Fibre

✔ Leather

✘ Lace

✘ Sole

Question Number : 11 Question Id : 16794310613 Question Type : MCQ Option Shuffling : Yes Display Question Number : Yes
Single Line Question Option : No Option Orientation : Vertical

Correct : 1 Wrong : 0.25

'पेपर' जैसे 'पल्प' से संबंधित है, उसी तरह 'जूते' किससे संबंधित है?

Options :

✘ फाइबर

✓ चमड़ा

✗ लेस

✗ तला

Question Number : 12 Question Id : 16794310614 Question Type : MCQ Option Shuffling : Yes Display Question Number : Yes
Single Line Question Option : No Option Orientation : Vertical

Correct : 1 Wrong : 0.25

Five friends Akbar, Karthi, Hari, David and Sekar are standing in a row facing south but not necessarily in the same order. Only Karthi is between Akbar and Sekar, Hari is immediate right to Sekar and David is immediate left to Akbar. On the basis of above information, which of the following statements is definitely true?

Options :

✗ Akbar is second to the left of Hari

✗ Karthi is to the right of Sekar

✗ Karthi is to the left of Akbar

✓ David is third to the left of Sekar

Question Number : 12 Question Id : 16794310614 Question Type : MCQ Option Shuffling : Yes Display Question Number : Yes
Single Line Question Option : No Option Orientation : Vertical

Correct : 1 Wrong : 0.25

पांच दोस्त अकबर, कार्थी, हरी, डेविड और सेकर दक्षिण की तरफ देखते हुए खड़े हैं लेकिन ज़रूरी नहीं की इसी क्रम में। केवल कार्थी, अकबर और सेकर के बीच है, हरि, सेकर के बिल्कुल बगल में दाहिनी तरफ है और डेविड, अकबर के बिल्कुल बगल में बाई तरफ है। उपर्युक्त जानकारी के आधार पर, निम्नलिखित में से कौन सा कथन निश्चित रूप से सही है?

Options :

✗ हरि के बाईं ओर दूसरे स्थान पर अकबर है

✗ कार्थी, सेकर की दाईं ओर है

✗ कार्थी, अकबर की बाईं ओर है

✓ सेकर के बाईं ओर तिसरे स्थान पर डेविड है

Question Number : 13 Question Id : 16794310615 Question Type : MCQ Option Shuffling : Yes Display Question Number : Yes
Single Line Question Option : No Option Orientation : Vertical

Correct : 1 Wrong : 0.25

Find the missing character in the following.

A	J	K
E	M	R
K	L	?

Options :

✗ U

✗ V

✓ W

✗ Z

Question Number : 13 Question Id : 16794310615 Question Type : MCQ Option Shuffling : Yes Display Question Number : Yes
Single Line Question Option : No Option Orientation : Vertical

Correct : 1 Wrong : 0.25

निम्नलिखित में अनुपस्थित अक्षर ढूँढें।

A	J	K
E	M	R
K	L	?

Options :

✗ U

✗ V

✓ W

✗ Z

Question Number : 14 Question Id : 16794310616 Question Type : MCQ Option Shuffling : Yes Display Question Number : Yes
Single Line Question Option : No Option Orientation : Vertical
Correct : 1 Wrong : 0.25

निम्नलिखित प्रश्न से, चार संभावित उत्तर विकल्प के रूप में दिए गए हैं। सबसे उपयुक्त विकल्प का उत्तर के रूप में चयन करें।

आपके द्वारा किए गए सभी कठिन परिश्रम आपके उच्च अधिकारी द्वारा छीन लिए गए हैं और आपके लिए आलोचना छोड़ दी गई है। आप _____

Options :

- ✘ सही समय पर सही चीजे करना सीखेंगे।
- ✔ काम चालु रखेंगे, क्योंकि कठिन परिश्रम कभी विफल नहीं होते।
- ✘ नौकरी छोड़ देंगे और कोई और बेहतर नौकरी की खोज करेंगे।
- ✘ सभी उपलब्धियों के लिए खुद की प्रशंसा करना शुरू करेंगे।

Question Number : 14 Question Id : 16794310616 Question Type : MCQ Option Shuffling : Yes Display Question Number : Yes
Single Line Question Option : No Option Orientation : Vertical
Correct : 1 Wrong : 0.25

For the following question, four probable answers have been given as options. Select the most appropriate option as the answer.

All the hard work done by you is hijacked by your higher officer and the brickbats are left for you. You will:

Options :

- ✘ learn to make right moves at right times.
- ✔ continue, as hard work always pays.
- ✘ leave the job and look for greener pastures.
- ✘ start praising yourself for all the achievements.

Question Number : 15 Question Id : 16794310617 Question Type : MCQ Option Shuffling : Yes Display Question Number : Yes
Single Line Question Option : No Option Orientation : Vertical
Correct : 1 Wrong : 0.25

You are given three statements and three conclusions. Identify which of the conclusions logically follow(s) from the statements.

Statements:

Some ducks are cats.

Some cats are rats.

No rat is crow.

Conclusions:

I. Some cats are ducks.

II. No crow is cat.

III. No rat is duck.

Options :

- ☒ Only conclusion I follows
- ☐ Only conclusions I and II follow
- ☐ Only conclusion III follows
- ☐ All conclusions I, II and III follow

Question Number : 15 Question Id : 16794310617 Question Type : MCQ Option Shuffling : Yes Display Question Number : Yes
Single Line Question Option : No Option Orientation : Vertical

Correct : 1 Wrong : 0.25

आपको तीन विधान और तीन निष्कर्ष दिए गए हैं। यह ज्ञात करें की कौन सा/से निष्कर्ष विधानों का तार्किक रूप से अनुसरण करता/करते है/हैं।

विधान:

- I. कुछ बतख बिल्लियां हैं।
- II. कुछ बिल्लियां चूहे हैं।
- III. कोई चूहा कौवा नहीं है।

निष्कर्ष:

- I. कुछ बिल्लियां बतख हैं।
- II. कोई कौवा बिल्ली नहीं है।
- III. कोई चूहा बतख नहीं है।

Options :

- ☒ केवल निष्कर्ष I अनुसरण करता है।
- ☐ केवल निष्कर्ष I और निष्कर्ष II अनुसरण करता है।
- ☐ केवल निष्कर्ष III अनुसरण करता है।

✖ निष्कर्ष I, II और III सभी अनुसरण करते हैं।

Question Number : 16 Question Id : 16794310618 Question Type : MCQ Option Shuffling : Yes Display Question Number : Yes
Single Line Question Option : No Option Orientation : Vertical

Correct : 1 Wrong : 0.25

In the following question, there are two statements labelled as Assertion (A) and Reason (R). Choose the correct alternative about them.

Assertion (A):

Pressure cookers are fitted with ebonite handles.

Reason (R):

Ebonite is strong.

Options :

✔ A is true but R is false

✖ A is false but R is true

✖ Both A and R are true and R is the correct explanation of A

✖ Both A and R are true but R is not the correct explanation of A

Question Number : 16 Question Id : 16794310618 Question Type : MCQ Option Shuffling : Yes Display Question Number : Yes
Single Line Question Option : No Option Orientation : Vertical

Correct : 1 Wrong : 0.25

निम्नलिखित प्रश्न में, अभिकथन (A) और कारण (R) के रूप में दो विधान दिए गए हैं। उनके बारे में सही विकल्प चुनें।

अभिकथन (A):

प्रेसर कुकर में एबोनाइट हैंडल लगे होते हैं।

कारण (R):

एबोनाइट मजबूत है।

Options :

✔ A सही है लेकिन R गलत है।

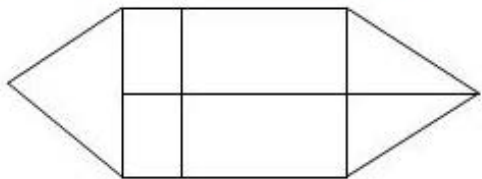
✖ A गलत है लेकिन R सही है।

✖ A और R दोनों सत्य हैं और R, A की सही व्याख्या है।

✖ A और R दोनों सत्य हैं और R, A की सही व्याख्या नहीं है।

Question Number : 17 Question Id : 16794310619 Question Type : MCQ Option Shuffling : Yes Display Question Number : Yes
Single Line Question Option : No Option Orientation : Vertical
Correct : 1 Wrong : 0.25

How many rectangles are there in the following figure?



Options :

✗ 4

✗ 6

✓ 9

✗ 12

Question Number : 17 Question Id : 16794310619 Question Type : MCQ Option Shuffling : Yes Display Question Number : Yes
Single Line Question Option : No Option Orientation : Vertical
Correct : 1 Wrong : 0.25

निम्नलिखित आकृति में कितने आयताकार हैं?



Options :

✗ 4

✗ 6

✓ 9

✗ 12

Question Number : 18 Question Id : 16794310620 Question Type : MCQ Option Shuffling : Yes Display Question Number : Yes
Single Line Question Option : No Option Orientation : Vertical
Correct : 1 Wrong : 0.25

You are given two statements and two conclusions. Identify which of the conclusions logically follow(s) from the statements.

Statements:

All clocks are chairs.

Some chairs are brown.

Conclusions:

I. All chairs are clocks.

II. Some clocks are brown.

Options :

- ☐ Only conclusion I follows
- ☐ Only conclusion II follows
- ☐ Both conclusions I and II follow
- ☒ Neither conclusion I nor II follows

Question Number : 18 Question Id : 16794310620 Question Type : MCQ Option Shuffling : Yes Display Question Number : Yes
Single Line Question Option : No Option Orientation : Vertical

Correct : 1 Wrong : 0.25

आपको दो विधान और दो निष्कर्ष दिए गए हैं। यह ज्ञात करें की कौन सा/से निष्कर्ष विधानों का तार्किक रूप से अनुसरण करता/करते हैं/हैं।

विधान:

- I. सभी घड़ियां कुर्सियां हैं।
- II. कुछ कुर्सियां भूरे रंग की हैं।

निष्कर्ष:

- I. सभी कुर्सियां घड़ियां हैं।
- II. कुछ घड़ियां भूरे रंग की हैं।

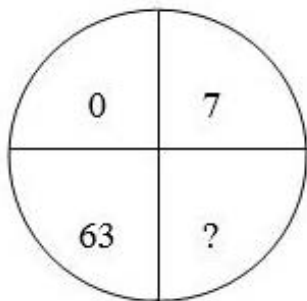
Options :

- ☐ केवल निष्कर्ष I अनुसरण करता है।
- ☐ केवल निष्कर्ष II अनुसरण करता है।
- ☐ निष्कर्ष I एवं II दोनों अनुसरण करते हैं।
- ☒ न तो निष्कर्ष I न ही निष्कर्ष II अनुसरण करते हैं।

Question Number : 19 Question Id : 16794310621 Question Type : MCQ Option Shuffling : Yes Display Question Number : Yes
Single Line Question Option : No Option Orientation : Vertical

Correct : 1 Wrong : 0.25

Find the missing number in the following.



Options :

✗ 25

✓ 26

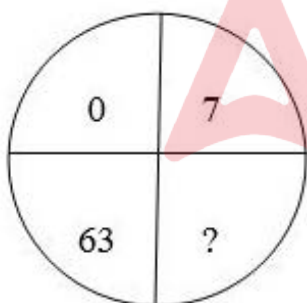
✗ 36

✗ 45

Question Number : 19 Question Id : 16794310621 Question Type : MCQ Option Shuffling : Yes Display Question Number : Yes
Single Line Question Option : No Option Orientation : Vertical

Correct : 1 Wrong : 0.25

निम्नलिखित में अनुपस्थित संख्या बताएं।



Options :

✗ 25

✓ 26

✗ 36

✗ 45

Question Number : 20 Question Id : 16794310622 Question Type : MCQ Option Shuffling : Yes Display Question Number : Yes
Single Line Question Option : No Option Orientation : Vertical

Correct : 1 Wrong : 0.25

Choose the similar pair from the following.

7 : 50 :: _____.

Options :

✗ 8 : 64

✗ 10 : 99

✓ 11 : 122

✗ 13 : 171

Question Number : 20 Question Id : 16794310622 Question Type : MCQ Option Shuffling : Yes Display Question Number : Yes
Single Line Question Option : No Option Orientation : Vertical

Correct : 1 Wrong : 0.25

निम्नलिखित में से समान जोड़ी चुनें।

7 : 50 :: _____.

Options :

✗ 8 : 64

✗ 10 : 99

✓ 11 : 122

✗ 13 : 171



General Awareness

Group Number :	2
Group Id :	167943313
Group Maximum Duration :	0
Group Minimum Duration :	0
Revisit allowed for view? :	No
Revisit allowed for edit? :	No
Break time:	0
Group Marks:	20

General Awareness

Section Id :	167943372
Section Number :	1

Section type :	Online
Mandatory or Optional:	Mandatory
Number of Questions:	20
Number of Questions to be attempted:	20
Section Marks:	20
Display Number Panel:	Yes
Group All Questions:	No

Sub-Section Number:	1
Sub-Section Id:	167943660
Question Shuffling Allowed :	Yes

Question Number : 21 Question Id : 16794310623 Question Type : MCQ Option Shuffling : Yes Display Question Number : Yes
Single Line Question Option : No Option Orientation : Vertical
Correct : 1 Wrong : 0.25

In the year 1962, India fought a war against:

Options :

- ✖ Myanmar
- ✖ Afghanistan
- ✔ China
- ✖ Pakistan

Question Number : 21 Question Id : 16794310623 Question Type : MCQ Option Shuffling : Yes Display Question Number : Yes
Single Line Question Option : No Option Orientation : Vertical
Correct : 1 Wrong : 0.25

वर्ष 1962 में भारत ने किसके खिलाफ युद्ध लड़ा था?

Options :

- ✖ म्यांमार
- ✖ अफ़ग़ानिस्तान
- ✔ चीन
- ✖ पाकिस्तान

Question Number : 22 Question Id : 16794310624 Question Type : MCQ Option Shuffling : Yes Display Question Number : Yes
Single Line Question Option : No Option Orientation : Vertical
Correct : 1 Wrong : 0.25

Ashoka was the _____ ruler of the Maurya dynasty.

Options :

- ✗ first
- ✗ second
- ✓ third
- ✗ fourth

Question Number : 22 Question Id : 16794310624 Question Type : MCQ Option Shuffling : Yes Display Question Number : Yes
Single Line Question Option : No Option Orientation : Vertical
Correct : 1 Wrong : 0.25

अशोक मौर्य राजवंश के _____ शासक थे।

Options :

- ✗ प्रथम
- ✗ द्वितीय
- ✓ तृतीय
- ✗ चौथे

Question Number : 23 Question Id : 16794310625 Question Type : MCQ Option Shuffling : Yes Display Question Number : Yes
Single Line Question Option : No Option Orientation : Vertical
Correct : 1 Wrong : 0.25

Who called Mohandas Karamchand Gandhi 'Great Soul (Mahatma) in Beggar's Garb'?

Options :

- ✓ Rabindranath Tagore
- ✗ Abdul Gaffar Khan
- ✗ Rajendra Prasad
- ✗ C Rajagopalachari

Question Number : 23 Question Id : 16794310625 Question Type : MCQ Option Shuffling : Yes Display Question Number : Yes
Single Line Question Option : No Option Orientation : Vertical
Correct : 1 Wrong : 0.25

मोहनदास करमचंद गांधी को 'भिखारी के वेश में महान आत्मा' (महात्मा) किसने कहा था?

Options :

- ✓ रबीन्द्रनाथ टैगोर

- ✖ अब्दुल गफ्फार खान
- ✖ राजेंद्र प्रसाद
- ✖ सी. राजगोपालाचारी

Question Number : 24 Question Id : 16794310626 Question Type : MCQ Option Shuffling : Yes Display Question Number : Yes
Single Line Question Option : No Option Orientation : Vertical

Correct : 1 Wrong : 0.25

Which is the largest tea-producing state in India?

Options :

- ✖ West Bengal
- ✖ Tamil Nadu
- ✖ Karnataka
- ✔ Assam

Question Number : 24 Question Id : 16794310626 Question Type : MCQ Option Shuffling : Yes Display Question Number : Yes
Single Line Question Option : No Option Orientation : Vertical

Correct : 1 Wrong : 0.25

भारत में सबसे बड़ा चाय उत्पादक राज्य कौन सा है?

Options :

- ✖ पश्चिम बंगाल
- ✖ तमिलनाडु
- ✖ कर्नाटक
- ✔ असम

Question Number : 25 Question Id : 16794310627 Question Type : MCQ Option Shuffling : Yes Display Question Number : Yes
Single Line Question Option : No Option Orientation : Vertical

Correct : 1 Wrong : 0.25

Which of the following lakes is located in Kerala?

Options :

- ✔ Vembanad Lake
- ✖ Loktak Lake

✖ Kolleru Lake

✖ Chilika Lake

Question Number : 25 Question Id : 16794310627 Question Type : MCQ Option Shuffling : Yes Display Question Number : Yes
Single Line Question Option : No Option Orientation : Vertical

Correct : 1 Wrong : 0.25

निम्नलिखित में से कौन सी झील केरल में स्थित है?

Options :

✔ वेम्बनाड झील

✖ लोकटक झील

✖ कोलेरु झील

✖ चिल्का झील

Question Number : 26 Question Id : 16794310628 Question Type : MCQ Option Shuffling : Yes Display Question Number : Yes
Single Line Question Option : No Option Orientation : Vertical

Correct : 1 Wrong : 0.25

_____ of the Indian Constitution provides provisions for amendments of the Constitution.

Options :

✖ Article 364

✖ Article 361

✖ Article 345

✔ Article 368

Question Number : 26 Question Id : 16794310628 Question Type : MCQ Option Shuffling : Yes Display Question Number : Yes
Single Line Question Option : No Option Orientation : Vertical

Correct : 1 Wrong : 0.25

भारतीय संविधान का _____ संविधान में संशोधन के प्रावधान प्रदान करता है।

Options :

✖ अनुच्छेद 364

✖ अनुच्छेद 361

✖ अनुच्छेद 345

✔ अनुच्छेद 368

Question Number : 27 Question Id : 16794310629 Question Type : MCQ Option Shuffling : Yes Display Question Number : Yes
Single Line Question Option : No Option Orientation : Vertical

Correct : 1 Wrong : 0.25

_____ has the power to make laws with respect to any of the matters enumerated in List I in the Seventh Schedule.

Options :

✖ The Attorney-General

✔ The Parliament

✖ The Legislature of a State

✖ The Advocate-General

Question Number : 27 Question Id : 16794310629 Question Type : MCQ Option Shuffling : Yes Display Question Number : Yes
Single Line Question Option : No Option Orientation : Vertical

Correct : 1 Wrong : 0.25

_____ को सातवीं अनुसूची की सूची 1 में उल्लिखित किसी भी मामले के संबंध में कानून बनाने की शक्ति प्राप्त है।

Options :

✖ महान्यायवादी

✔ संसद

✖ राज्य की विधान सभा

✖ एडवोकेट जनरल

Question Number : 28 Question Id : 16794310630 Question Type : MCQ Option Shuffling : Yes Display Question Number : Yes
Single Line Question Option : No Option Orientation : Vertical

Correct : 1 Wrong : 0.25

The total number of members (seats) in the Legislative Assembly of the National Capital Territory of Delhi is:

Options :

✖ 75

✖ 80

✓ 70

✗ 85

Question Number : 28 Question Id : 16794310630 Question Type : MCQ Option Shuffling : Yes Display Question Number : Yes
Single Line Question Option : No Option Orientation : Vertical

Correct : 1 Wrong : 0.25

राष्ट्रीय राजधानी क्षेत्र दिल्ली की विधान सभा में सदस्यों (सीटों) की कुल संख्या है:

Options :

✗ 75

✗ 80

✓ 70

✗ 85

Question Number : 29 Question Id : 16794310631 Question Type : MCQ Option Shuffling : Yes Display Question Number : Yes
Single Line Question Option : No Option Orientation : Vertical

Correct : 1 Wrong : 0.25

Where is the central office of RBI located as on May 2018?

Options :

✓ Mumbai

✗ Delhi

✗ Kolkata

✗ Chennai

Question Number : 29 Question Id : 16794310631 Question Type : MCQ Option Shuffling : Yes Display Question Number : Yes
Single Line Question Option : No Option Orientation : Vertical

Correct : 1 Wrong : 0.25

मई 2018 को आरबीआई का केंद्रीय कार्यालय कहाँ स्थित है?

Options :

✓ मुंबई

✗ दिल्ली

✗ कोलकाता

✖ चेन्नई

Question Number : 30 Question Id : 16794310632 Question Type : MCQ Option Shuffling : Yes Display Question Number : Yes
Single Line Question Option : No Option Orientation : Vertical

Correct : 1 Wrong : 0.25

NPCI is the umbrella organisation for all retail payments system in India. What is the full form of NPCI?

Options :

✖ National Payments Company Inc.

✔ National Payments Corporation of India

✖ New Payments Corporation of India

✖ New Payments Cooperative Inc.

Question Number : 30 Question Id : 16794310632 Question Type : MCQ Option Shuffling : Yes Display Question Number : Yes
Single Line Question Option : No Option Orientation : Vertical

Correct : 1 Wrong : 0.25

एनपीसीआई भारत में सभी खुदरा भुगतान प्रणाली के लिए अम्ब्रेला संगठन है। एनपीसीआई का पूर्ण विस्तार क्या है?

Options :

✖ नेशनल पेमेंट्स कंपनी इंक.

✔ नेशनल पेमेंट्स कॉर्पोरेशन ऑफ़ इंडिया

✖ न्यू पेमेंट्स कॉर्पोरेशन ऑफ़ इंडिया

✖ न्यू पेमेंट्स कोऑपरेटिव इंक.

Question Number : 31 Question Id : 16794310633 Question Type : MCQ Option Shuffling : Yes Display Question Number : Yes
Single Line Question Option : No Option Orientation : Vertical

Correct : 1 Wrong : 0.25

Which of the following musical instruments does Ustad Amjad Ali Khan play?

Options :

✖ Sitar

✖ Shehnai

✔ Sarod

✖ Tabla

Question Number : 31 Question Id : 16794310633 Question Type : MCQ Option Shuffling : Yes Display Question Number : Yes
Single Line Question Option : No Option Orientation : Vertical

Correct : 1 Wrong : 0.25

उस्ताद अमजद अली खान निम्नलिखित में से कौन से संगीत वाद्य यंत्र के वादक हैं?

Options :

✖ सितार

✖ शहनाई

✓ सरोद

✖ तबला

Question Number : 32 Question Id : 16794310634 Question Type : MCQ Option Shuffling : Yes Display Question Number : Yes
Single Line Question Option : No Option Orientation : Vertical

Correct : 1 Wrong : 0.25

Who among the following is/was a famous santoor player?

Options :

✓ Pandit Shivkumar Sharma

✖ Ustad Zakir Hussain

✖ Ustad Bismillah Khan

✖ Pandit Bhimsen Joshi

Question Number : 32 Question Id : 16794310634 Question Type : MCQ Option Shuffling : Yes Display Question Number : Yes
Single Line Question Option : No Option Orientation : Vertical

Correct : 1 Wrong : 0.25

निम्नलिखित में से कौन प्रसिद्ध संतूर वादक हैं/थे?

Options :

✓ पंडित शिवकुमार शर्मा

✖ उस्ताद जाकिर हुसैन

✖ उस्ताद बिस्मिल्लाह खान

✘ पंडित भीमसेन जोशी

Question Number : 33 Question Id : 16794310635 Question Type : MCQ Option Shuffling : Yes Display Question Number : Yes
Single Line Question Option : No Option Orientation : Vertical

Correct : 1 Wrong : 0.25

Paintings of which of the following painters revolve around Puranas, Mahabharata and Ramayana?

Options :

✘ Rabindranath Tagore

✘ Amrita Shergill

✓ Raja Ravi Varma

✘ Satish Gujral

Question Number : 33 Question Id : 16794310635 Question Type : MCQ Option Shuffling : Yes Display Question Number : Yes
Single Line Question Option : No Option Orientation : Vertical

Correct : 1 Wrong : 0.25

निम्नलिखित में से किस चित्रकार की चित्रकारी पुराण, महाभारत और रामायण से जुड़ी हुई है?

Options :

✘ रबीन्द्रनाथ टैगोर

✘ अमृता शेरगिल

✓ राजा रवि वर्मा

✘ सतीश गुजराल

Question Number : 34 Question Id : 16794310636 Question Type : MCQ Option Shuffling : Yes Display Question Number : Yes
Single Line Question Option : No Option Orientation : Vertical

Correct : 1 Wrong : 0.25

Who among the following is the only Indian to win Olympic medal in tennis?

Options :

✓ Leander Peas

✘ Sania Mirza

✘ Mahesh Bhupathi

✖ Rohan Bopanna

Question Number : 34 Question Id : 16794310636 Question Type : MCQ Option Shuffling : Yes Display Question Number : Yes
Single Line Question Option : No Option Orientation : Vertical

Correct : 1 Wrong : 0.25

टेनिस में ओलंपिक पदक जीतने वाले/वाली एकमात्र भारतीय कौन है?

Options :

✔ लिंडर पेस

✖ सानिया मिर्जा

✖ महेश भूपति

✖ रोहन बोपन्ना

Question Number : 35 Question Id : 16794310637 Question Type : MCQ Option Shuffling : Yes Display Question Number : Yes
Single Line Question Option : No Option Orientation : Vertical

Correct : 1 Wrong : 0.25

India won _____ medals in women's singles and a _____ medal in men's singles in Badminton at the 2018 Commonwealth Games.

Options :

✖ Silver and Bronze; Bronze

✖ Gold and Silver; Bronze

✖ Gold and Bronze; Silver

✔ Gold and Silver; Silver

Question Number : 35 Question Id : 16794310637 Question Type : MCQ Option Shuffling : Yes Display Question Number : Yes
Single Line Question Option : No Option Orientation : Vertical

Correct : 1 Wrong : 0.25

राष्ट्रमंडल खेल 2018 में भारत ने बैडमिंटन के महिला एकल वर्ग में _____ पदक और पुरुषों के एकल वर्ग में _____ पदक जीते हैं।

Options :

✖ सिल्वर और कांस्य; कांस्य

✖ स्वर्ण और सिल्वर; कांस्य

✖ स्वर्ण और कांस्य; सिल्वर

✔ स्वर्ण और सिल्वर; सिल्वर

Question Number : 36 Question Id : 16794310638 Question Type : MCQ Option Shuffling : Yes Display Question Number : Yes
Single Line Question Option : No Option Orientation : Vertical

Correct : 1 Wrong : 0.25

पावर (रेडिएंट फ्लक्स) की एसआई इकाई है:

Options :

✖ पास्कल

✖ फैराड

✔ वाट

✖ वोल्ट

Question Number : 36 Question Id : 16794310638 Question Type : MCQ Option Shuffling : Yes Display Question Number : Yes
Single Line Question Option : No Option Orientation : Vertical

Correct : 1 Wrong : 0.25

The SI unit of power (Radiant Flux) is:

Options :

✖ Pascal

✖ Farad

✔ Watt

✖ Volt

Question Number : 37 Question Id : 16794310639 Question Type : MCQ Option Shuffling : Yes Display Question Number : Yes
Single Line Question Option : No Option Orientation : Vertical

Correct : 1 Wrong : 0.25

Where is the headquarters of the New Development Bank located?

Options :

✖ New Delhi

✖ Moscow

✖ Brasília

✓ Shanghai

Question Number : 37 Question Id : 16794310639 Question Type : MCQ Option Shuffling : Yes Display Question Number : Yes
Single Line Question Option : No Option Orientation : Vertical

Correct : 1 Wrong : 0.25

न्यू डेवलपमेंट बैंक का मुख्यालय कहाँ स्थित है?

Options :

✗ नई दिल्ली

✗ मोस्को

✗ ब्रासीलिया

✓ शंघाई

Question Number : 38 Question Id : 16794310640 Question Type : MCQ Option Shuffling : Yes Display Question Number : Yes
Single Line Question Option : No Option Orientation : Vertical

Correct : 1 Wrong : 0.25

In which of the following nations was the 2018 International Buddhist Conference held?

Options :

✗ Japan

✗ Sri Lanka

✓ Nepal

✗ Mongolia

Question Number : 38 Question Id : 16794310640 Question Type : MCQ Option Shuffling : Yes Display Question Number : Yes
Single Line Question Option : No Option Orientation : Vertical

Correct : 1 Wrong : 0.25

निम्नलिखित में से किस देश में अंतर्राष्ट्रीय बौद्ध सम्मेलन 2018 आयोजित किया गया था?

Options :

✗ जापान

✗ श्रीलंका

✓ नेपाल

✖ मंगोलिया

Question Number : 39 Question Id : 16794310641 Question Type : MCQ Option Shuffling : Yes Display Question Number : Yes
Single Line Question Option : No Option Orientation : Vertical

Correct : 1 Wrong : 0.25

Who among the following was chosen for the prestigious Saraswati Samman 2017?

Options :

✔ Sitanshu Yashaschandra

✖ Chetan Bhagat

✖ Amish Tripathi

✖ Lakshmi Nandan Bora

Question Number : 39 Question Id : 16794310641 Question Type : MCQ Option Shuffling : Yes Display Question Number : Yes
Single Line Question Option : No Option Orientation : Vertical

Correct : 1 Wrong : 0.25

प्रतिष्ठित सरस्वती सम्मान 2017 के लिए निम्नलिखित में से किसे चुना गया था?

Options :

✔ सीतांशु यशश्चंद्र

✖ चेतन भगत

✖ अमीश त्रिपाठी

✖ लक्ष्मी नंदन बोरा

Question Number : 40 Question Id : 16794310642 Question Type : MCQ Option Shuffling : Yes Display Question Number : Yes
Single Line Question Option : No Option Orientation : Vertical

Correct : 1 Wrong : 0.25

Identify the FMCG major that has joined hands with the NITI Aayog to train 2 lakh farmers to increase their income and raise the productivity of major crops.

Options :

✔ ITC

✖ Asian Paints

✖ Britannia

✖ Dabur

Question Number : 40 Question Id : 16794310642 Question Type : MCQ Option Shuffling : Yes Display Question Number : Yes
Single Line Question Option : No Option Orientation : Vertical
Correct : 1 Wrong : 0.25

उस प्रमुख एफएमसीजी की पहचान करें जिसने नीति आयोग के साथ 2 लाख किसानों को उनकी आय बढ़ाने और प्रमुख फसलों की उत्पादकता बढ़ाने के लिए प्रशिक्षित करने के लिए हाथ मिलाया है।

Options :

✔ आईटीसी

✖ एशियन पेंट्स

✖ ब्रिटानिया

✖ डाबर

Group Number :	3
Group Id :	167943314
Group Maximum Duration :	0
Group Minimum Duration :	0
Revisit allowed for view? :	No
Revisit allowed for edit? :	No
Break time:	0
Group Marks:	20

Section Id :	167943373
Section Number :	1
Section type :	Online
Mandatory or Optional:	Mandatory
Number of Questions:	17
Number of Questions to be attempted:	17
Section Marks:	20
Display Number Panel:	Yes
Group All Questions:	No

Sub-Section Number:	1
Sub-Section Id:	167943661
Question Shuffling Allowed :	Yes

Question Number : 41 Question Id : 16794310643 Question Type : MCQ Option Shuffling : Yes Display Question Number : Yes
Single Line Question Option : No Option Orientation : Vertical

Correct : 1 Wrong : 0.25

How many numbers lie between 11 and 500 which when divided by 9 leave a remainder 6 and when divided by 21, leave a remainder 12?

Options :

✗ 6

✗ 7

✓ 8

✗ 9

Question Number : 41 Question Id : 16794310643 Question Type : MCQ Option Shuffling : Yes Display Question Number : Yes
Single Line Question Option : No Option Orientation : Vertical

Correct : 1 Wrong : 0.25

11 और 500 के मध्य ऐसी कितनी संख्याएं हैं जिसे 9 से विभाजित करने पर शेष 6 और 21 से विभाजित करने पर शेष 12 बचता हो?

Options :

✗ 6

✗ 7

✓ 8

✗ 9

Question Number : 42 Question Id : 16794310644 Question Type : MCQ Option Shuffling : Yes Display Question Number : Yes
Single Line Question Option : No Option Orientation : Vertical

Correct : 1 Wrong : 0.25

The value of $\frac{8.73 \times 76.2129 + 18.2329 \times 4.27}{76.2129 - 3 \times 2.91 \times 4.27 + (4.27)^2} \div (25 \times 3.25 + 50.4 \div 24 - 5 \times 3.67)$ lies between:

Options :

✗ 0.12 and 0.15

✗ 0.15 and 0.18

✓ 0.18 and 0.21

✗ 0.21 and 0.24

Question Number : 42 Question Id : 16794310644 Question Type : MCQ Option Shuffling : Yes Display Question Number : Yes
Single Line Question Option : No Option Orientation : Vertical

Correct : 1 Wrong : 0.25

व्यंजक $\frac{8.73 \times 76.2129 + 18.2329 \times 4.27}{76.2129 - 3 \times 2.91 \times 4.27 + (4.27)^2} \div (25 \times 3.25 + 50.4 \div 24 - 5 \times 3.67)$ का मान निम्नलिखित में से किसके मध्य होगा?

Options :

- ☐ 0.12 और 0.15 के मध्य
- ☐ 0.15 और 0.18 के मध्य
- ☒ 0.18 और 0.21 के मध्य
- ☐ 0.21 और 0.24 के मध्य

Question Number : 43 Question Id : 16794310645 Question Type : MCQ Option Shuffling : Yes Display Question Number : Yes
Single Line Question Option : No Option Orientation : Vertical
Correct : 1 Wrong : 0.25

The value of $\frac{(\sqrt{9})^3 \times (\sqrt{81})^{\frac{5}{2}} \div (27)^2 \times 2^{31.5} \times 8^2}{3^2 \times (64)^{3.1} \times 8^{4.3} \times 4^{2.5}}$ is:

Options :

- ☐ 1
- ☒ 2
- ☐ 4
- ☐ 6

Question Number : 43 Question Id : 16794310645 Question Type : MCQ Option Shuffling : Yes Display Question Number : Yes
Single Line Question Option : No Option Orientation : Vertical
Correct : 1 Wrong : 0.25

व्यंजक $\frac{(\sqrt{9})^3 \times (\sqrt{81})^{\frac{5}{2}} \div (27)^2 \times 2^{31.5} \times 8^2}{3^2 \times (64)^{3.1} \times 8^{4.3} \times 4^{2.5}}$ का मान क्या होगा?

Options :

- ☐ 1
- ☒ 2
- ☐ 4
- ☐ 6

Question Number : 44 Question Id : 16794310646 Question Type : MCQ Option Shuffling : Yes Display Question Number : Yes
Single Line Question Option : No Option Orientation : Vertical

Correct : 1 Wrong : 0.25

The value of $\frac{\left(\frac{1}{2} + \frac{1}{3} \text{ of } \frac{1}{4} + \frac{5}{6}\right) \div 8\frac{1}{2}}{\frac{1}{13} \text{ of } \left(1 + 5\frac{1}{2}\right) + \frac{5}{6} \times \frac{1}{23} \text{ of } \left(7 - 2\frac{2}{5}\right) - \frac{1}{3}}$ is:

Options :

☐ 2

☐ 1

☐ $\frac{1}{4}$

☒ $\frac{1}{2}$

Question Number : 44 Question Id : 16794310646 Question Type : MCQ Option Shuffling : Yes Display Question Number : Yes
Single Line Question Option : No Option Orientation : Vertical

Correct : 1 Wrong : 0.25

व्यंजक $\frac{\left(\frac{1}{2} + \frac{1}{3} \text{ of } \frac{1}{4} + \frac{5}{6}\right) \div 8\frac{1}{2}}{\frac{1}{13} \text{ of } \left(1 + 5\frac{1}{2}\right) + \frac{5}{6} \times \frac{1}{23} \text{ of } \left(7 - 2\frac{2}{5}\right) - \frac{1}{3}}$ का मान क्या होगा?

Options :

☐ 2

☐ 1

☐ $\frac{1}{4}$

☒ $\frac{1}{2}$

Question Number : 45 Question Id : 16794310647 Question Type : MCQ Option Shuffling : Yes Display Question Number : Yes
Single Line Question Option : No Option Orientation : Vertical

Correct : 1 Wrong : 0.25

In a school, $\frac{5}{12}$ of total number of students are boys and rest are girls. One fifth of the number of boys are players whereas $\frac{2}{7}$ of the number of girls are also players. What fraction of total number of students in the school are NOT players?

Options :

☐ $\frac{1}{2}$

☐ $\frac{2}{3}$

☒ $\frac{3}{4}$

☐ $\frac{2}{5}$

Question Number : 45 Question Id : 16794310647 Question Type : MCQ Option Shuffling : Yes Display Question Number : Yes
Single Line Question Option : No Option Orientation : Vertical

Correct : 1 Wrong : 0.25

किसी स्कूल में कुल छात्रों के $\frac{5}{12}$ लड़के हैं और शेष लड़कियां। लड़कों के कुल संख्या का $\frac{1}{5}$ और लड़कियों की कुल संख्या का $\frac{2}{7}$ खिलाड़ी हैं। कुल छात्रों का कितना भाग खिलाड़ी नहीं हैं?

Options :

☐ $\frac{1}{2}$

☐ $\frac{2}{3}$

☒ $\frac{3}{4}$

☐ $\frac{2}{5}$

Question Number : 46 Question Id : 16794310648 Question Type : MCQ Option Shuffling : Yes Display Question Number : Yes
Single Line Question Option : No Option Orientation : Vertical

Correct : 1 Wrong : 0.25

Let x be the least number which when divided by 21, 25, 27 and 35, leaves remainder 5 in each case, but x is divisible by 31. The sum of the digits of x is:

Options :

☒ 23

☐ 19

☐ 17

☐ 16

Question Number : 46 Question Id : 16794310648 Question Type : MCQ Option Shuffling : Yes Display Question Number : Yes
Single Line Question Option : No Option Orientation : Vertical

Correct : 1 Wrong : 0.25

मान लें कि x वो छोटी से छोटी संख्या है जिसे 21, 25, 27 और 35 से विभाजित करने पर प्रत्येक स्थिति में शेष 5 प्राप्त होता है। परन्तु x , 31 से भाज्य है। संख्या x के अंकों का योग क्या होगा?

Options :

✓ 23

✗ 19

✗ 17

✗ 16

Question Number : 47 Question Id : 16794310649 Question Type : MCQ Option Shuffling : Yes Display Question Number : Yes
Single Line Question Option : No Option Orientation : Vertical

Correct : 1 Wrong : 0.25

When 3621, 3801, 2361 are divided by y , the remainder in each case is the same. What is the sum of the greatest value of y and the remainder?

Options :

✗ 178

✗ 182

✗ 198

✓ 201

Question Number : 47 Question Id : 16794310649 Question Type : MCQ Option Shuffling : Yes Display Question Number : Yes
Single Line Question Option : No Option Orientation : Vertical

Correct : 1 Wrong : 0.25

जब संख्याओं 3621, 3801, 2361 को y से विभाजित किया जाता है तो हर हाल में शेष समान रहता है। y के अधिकतम मान और शेष का योग क्या होगा?

Options :

✗ 178

✗ 182

✗ 198

✓ 201

Question Number : 48 Question Id : 16794310650 Question Type : MCQ Option Shuffling : Yes Display Question Number : Yes
Single Line Question Option : No Option Orientation : Vertical

Correct : 1 Wrong : 0.25

Income of A is equal to 80% of income of B and expenditure of A is equal to 70% of B's expenditure. If A's income is equal to B's expenditure, then saving of A exceeds the saving of B by:

Options :

✗ 18%

✓ 20%

✗ 25%

✗ 30%

Question Number : 48 Question Id : 16794310650 Question Type : MCQ Option Shuffling : Yes Display Question Number : Yes
Single Line Question Option : No Option Orientation : Vertical

Correct : 1 Wrong : 0.25

A की आय B की आय का 80% है और A का व्यय B के व्यय का 70% है। यदि A की आय, B के व्यय के बराबर हो तो A की बचत B के बचत से कितना प्रतिशत ज़्यादा होगी?

Options :

✗ 18%

✓ 20%

✗ 25%

✗ 30%

Question Number : 49 Question Id : 16794310651 Question Type : MCQ Option Shuffling : Yes Display Question Number : Yes
Single Line Question Option : No Option Orientation : Vertical

Correct : 1 Wrong : 0.25

The average of ten number is 72. The average of first three is 68 and that of next four numbers is 70. The 8th number is greater than the 10th number by 4 and less than the 9th number by 3. What is the average of the 8th and 10th numbers?

Options :

✗ 72

✗ 73

✓ 77

✗ 79

Question Number : 49 Question Id : 16794310651 Question Type : MCQ Option Shuffling : Yes Display Question Number : Yes
Single Line Question Option : No Option Orientation : Vertical

Correct : 1 Wrong : 0.25

दस संख्याओं का औसत 72 है। पहले तीन संख्याओं का औसत 68 और अगले चार संख्याओं का 70 है। आठवीं संख्या दसवीं से 4 अधिक है और नवीं से 3 कम है। आठवीं और दसवीं संख्याओं का औसत क्या होगा?

Options :

✖ 72

✖ 73

✔ 77

✖ 79

Question Number : 50 Question Id : 16794310652 Question Type : MCQ Option Shuffling : Yes Display Question Number : Yes
Single Line Question Option : No Option Orientation : Vertical

Correct : 1 Wrong : 0.25

A trader allows a discount of 15% on the marked price of an article. How much above the cost price must he mark the article to mark a profit of 36%?

Options :

✔ 60%

✖ 61%

✖ 65%

✖ 54%

Question Number : 50 Question Id : 16794310652 Question Type : MCQ Option Shuffling : Yes Display Question Number : Yes
Single Line Question Option : No Option Orientation : Vertical

Correct : 1 Wrong : 0.25

एक दूकानदार किसी वस्तु के अंकित मूल्य पर 15% की छूट देता है। लागत पर कितने प्रतिशत उपर का मूल्य अंकित किया जाये कि लाभ 36% हो?

Options :

✔ 60%

✖ 61%

✖ 65%

✖ 54%

Question Number : 51 Question Id : 16794310653 Question Type : MCQ Option Shuffling : Yes Display Question Number : Yes
Single Line Question Option : No Option Orientation : Vertical

Correct : 1 Wrong : 0.25

The simple interest on a certain sum for 4 years at 16% per annum is ₹ 26214.40. What will be the amount of the same sum for $1\frac{1}{4}$ years at 15% per annum, if interest is compounded five-monthly?

Options :

✗ ₹ 48105

✗ ₹ 49310

✓ ₹ 49130

✗ ₹ 49103

Question Number : 51 Question Id : 16794310653 Question Type : MCQ Option Shuffling : Yes Display Question Number : Yes
Single Line Question Option : No Option Orientation : Vertical

Correct : 1 Wrong : 0.25

किसी राशि पर 16% प्रति वर्ष की दर से 4 वर्षों का चक्रवृद्धि ब्याज ₹ 26214.40 है, ब्याज प्रति वर्ष संकलित होता है। उपरोक्त राशि पर 15% प्रति वर्ष से $1\frac{1}{4}$ वर्षों में ब्याज कितना होगा यदि ब्याज प्रति पांच माह पर संकलित होता है?

Options :

✗ ₹ 48105

✗ ₹ 49310

✓ ₹ 49130

✗ ₹ 49103

Question Number : 52 Question Id : 16794310654 Question Type : MCQ Option Shuffling : Yes Display Question Number : Yes
Single Line Question Option : No Option Orientation : Vertical

Correct : 1 Wrong : 0.25

The ratio of the radius and height of a cone is 4 : 3 and the area of the base is 154 cm^2 . What is the area (in cm^2) of its curved surface? (use $\pi = \frac{22}{7}$)

Options :

✗ 190.6

✓ 192.5

✗ 192.8

✗ 194.2

Question Number : 52 Question Id : 16794310654 Question Type : MCQ Option Shuffling : Yes Display Question Number : Yes
Single Line Question Option : No Option Orientation : Vertical

Correct : 1 Wrong : 0.25

किसी शंकु के त्रिज्या और ऊँचाई का अनुपात 4 : 3 है और आधार का क्षेत्रफल 154 वर्ग सेंटीमीटर है। वर्ग सेंटीमीटर में वक्र पृष्ठ का क्षेत्रफल कितना होगा? ($\pi = \frac{22}{7}$ उपयोग करें)।

Options :

✗ 190.6

✓ 192.5

✗ 192.8

✗ 194.2

Question Number : 53 Question Id : 16794310655 Question Type : MCQ Option Shuffling : Yes Display Question Number : Yes
Single Line Question Option : No Option Orientation : Vertical

Correct : 1 Wrong : 0.25

A person can row 18 km/h in still water. It takes him at thrice as long to row up as to row down a certain distance. How much time will it take to row a distance of 180 km downstream?

Options :

✗ 5 hours 0 minutes

✗ 5 hours 20 minutes

✗ 6 hours 20 minutes

✓ 6 hours 40 minutes

Question Number : 53 Question Id : 16794310655 Question Type : MCQ Option Shuffling : Yes Display Question Number : Yes
Single Line Question Option : No Option Orientation : Vertical

Correct : 1 Wrong : 0.25

एक व्यक्ति शांत जल में 18 किलोमीटर/घंटे की रफ़्तार से नाव चला सकता है। यदि धारा के विपरीत दिशा में एक खास दूरी तय करने में उसे धारा की दिशा में लगे समय से तीन गुना समय लगता है, तो उसे धारा की दिशा में 180 किलोमीटर की दूरी तय करने में कितना समय लगेगा?

Options :

✗ 5 घंटे 0 मिनट

✗ 5 घंटे 20 मिनट

✗ 6 घंटे 20 मिनट

✓ 6 घंटे 40 मिनट

Question Number : 54 Question Id : 16794310656 Question Type : MCQ Option Shuffling : Yes Display Question Number : Yes
Single Line Question Option : No Option Orientation : Vertical

Correct : 1 Wrong : 0.25

A, B and C can complete a work in 24 days, 30 days and 36 days respectively. A is assisted by B and C on alternate days starting with B on first day. In how many days will the work be completed?

Options :

✗ $12\frac{21}{25}$

✗ $12\frac{23}{25}$

✓ $13\frac{21}{25}$

✗ $13\frac{23}{25}$

Question Number : 54 Question Id : 16794310656 Question Type : MCQ Option Shuffling : Yes Display Question Number : Yes
Single Line Question Option : No Option Orientation : Vertical

Correct : 1 Wrong : 0.25

A, B और C किसी कार्य को क्रमशः 24, 30 और 36 दिनों में संपन्न कर देते हैं। B से शुरुआत कर A को B और C द्वारा बारी बारी से कार्य में मदद की जाती है। कितने दिनों में कार्य समाप्त होगा?

Options :

✗ $12\frac{21}{25}$

✗ $12\frac{23}{25}$

✓ $13\frac{21}{25}$

✗ $13\frac{23}{25}$

Sub-Section Number:

2

Sub-Section Id:

167943662

Question Shuffling Allowed :

Yes

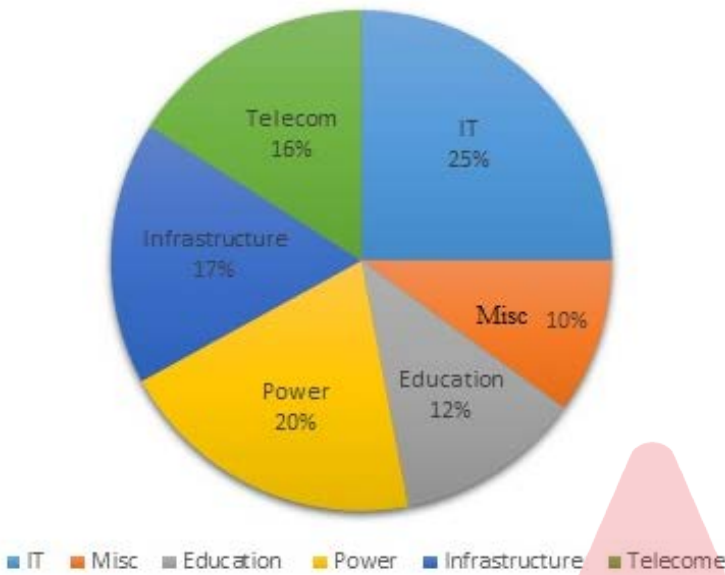
Question Id : 16794310657 Question Type : COMPREHENSION Sub Question Shuffling Allowed : Yes Group Comprehension
Questions : No

Question Numbers : (55 to 56)

Question Label : Comprehension

Study the following pie chart and table and answer the question that follows.

Investment in different sectors



The following table shows the FDI in different states during the year 2004-2005.

States	A	B	C	D	E	F
FDI (in ₹ crores)	480	540	530	440	400	360

Sub questions

Question Number : 55 Question Id : 16794310658 Question Type : MCQ Option Shuffling : Yes Display Question Number : Yes
Single Line Question Option : No Option Orientation : Vertical
Correct : 1 Wrong : 0.25

What is the ratio between the total FDI in IT sector in states B, C and F and the total FDI in power sector in states A, D and E?

Options :

✗ 13 : 15

✗ 13 : 18

✓ 65 : 48

✗ 65 : 36

Question Number : 56 Question Id : 16794310659 Question Type : MCQ Option Shuffling : Yes Display Question Number : Yes
Single Line Question Option : No Option Orientation : Vertical
Correct : 1 Wrong : 0.25

Total FDI in Telecom and Education sectors in states A and E is what percent of total FDI in Infrastructure and Misc sectors in states B and D?
(nearest to an integer)

Options :

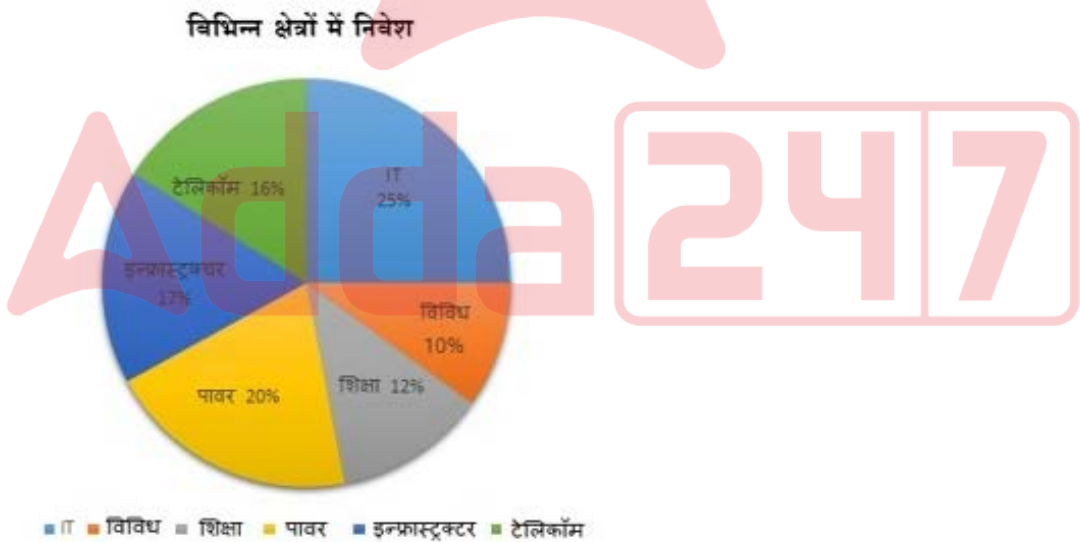
- ✗ 69
- ✗ 78
- ✗ 87
- ✓ 93

Question Id : 16794310657 Question Type : COMPREHENSION Sub Question Shuffling Allowed : Yes Group Comprehension Questions : No

Question Numbers : (55 to 56)

Question Label : Comprehension

निम्नलिखित पाई-चार्ट और टेबल का अध्ययन करें और प्रश्नों के उत्तर दें।



निम्नलिखित टेबल विभिन्न राज्यों में 2004-2005 के दौरान निवेश को दर्शाता है।

राज्य	A	B	C	D	E	F
निवेश (₹ करोड़ में)	480	540	530	440	400	360

Sub questions

Question Number : 55 Question Id : 16794310658 Question Type : MCQ Option Shuffling : Yes Display Question Number : Yes
Single Line Question Option : No Option Orientation : Vertical

Correct : 1 Wrong : 0.25

राज्यों B, C और F में IT क्षेत्र में कुल निवेश
और राज्यों A, D और E में पावर क्षेत्र में कुल
निवेश का अनुपात क्या है?

Options :

✗ 13 : 15

✗ 13 : 18

✓ 65 : 48

✗ 65 : 36

Question Number : 56 Question Id : 16794310659 Question Type : MCQ Option Shuffling : Yes Display Question Number : Yes
Single Line Question Option : No Option Orientation : Vertical

Correct : 1 Wrong : 0.25

राज्यों A और E के टेलिकॉम क्षेत्र में कुल निवेश
राज्यों B और D के इन्फ्रास्ट्रक्चर और विविध
क्षेत्र में कुल निवेश का प्रतिशत कितना है
(निकटस्थ पूर्णांक में)?

Options :

✗ 69

✗ 78

✗ 87

✓ 93

Sub-Section Number: 3
Sub-Section Id: 167943663
Question Shuffling Allowed : Yes

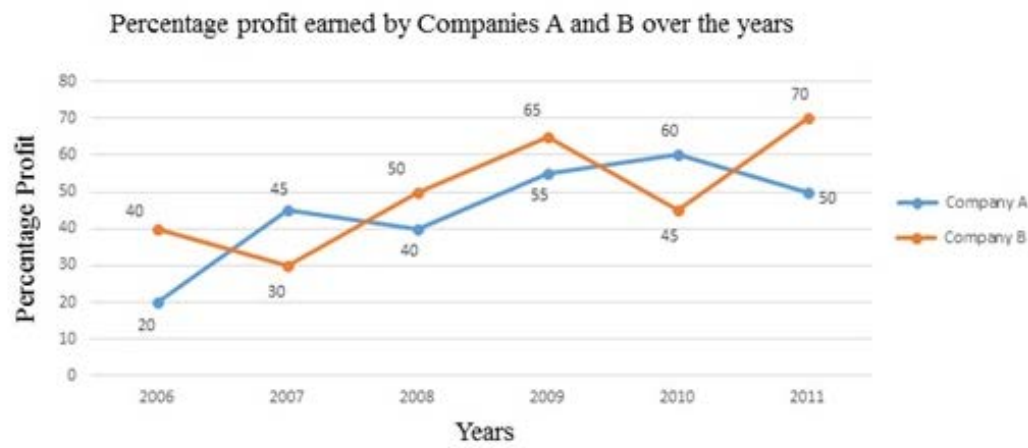
Question Id : 16794310660 Question Type : COMPREHENSION Sub Question Shuffling Allowed : Yes Group Comprehension
Questions : No

Question Numbers : (57 to 58)

Question Label : Comprehension

Study the following graph and answer the question that follows.

Percentage Profit = $\frac{\text{Income} - \text{Expenditure}}{\text{Expenditure}} \times 100$



Sub questions

Question Number : 57 Question Id : 16794310661 Question Type : MCQ Option Shuffling : Yes Display Question Number : Yes
Single Line Question Option : No Option Orientation : Vertical
Correct : 1 Wrong : 0.25

If the expenditure of company A in 2007 was ₹ 80 lakhs, then what was its income (in ₹ lakhs) in 2007?

Options :

✗ 112

✓ 116

✗ 118

✗ 120

Question Number : 58 Question Id : 16794310662 Question Type : MCQ Option Shuffling : Yes Display Question Number : Yes
Single Line Question Option : No Option Orientation : Vertical
Correct : 1 Wrong : 0.25

If the income of company A in 2008 was equal to the expenditure of B in 2010, then what was the ratio of expenditure of A in 2008 to the income of B in 2010?

Options :

✗ 28 : 29

✗ 28 : 31

✗ 100 : 189

✓ 100 : 203

Question Id : 16794310660 Question Type : COMPREHENSION Sub Question Shuffling Allowed : Yes Group Comprehension Questions : No

Question Numbers : (57 to 58)

Question Label : Comprehension

निम्नलिखित ग्राफ का अध्ययन करें और प्रश्नों के उत्तर दें।

$$\text{लाभ प्रतिशत} = \frac{\text{आय} - \text{व्यय}}{\text{व्यय}} \times 100$$

वर्षों से कंपनियों A और B द्वारा अर्जित प्रतिशत लाभ



Sub questions

Question Number : 57 Question Id : 16794310661 Question Type : MCQ Option Shuffling : Yes Display Question Number : Yes
Single Line Question Option : No Option Orientation : Vertical

Correct : 1 Wrong : 0.25

यदि कंपनी A का 2007 में व्यय ₹ 80 लाख था तो उसकी आय 2007 में क्या थी (₹ लाख में)?

Options :

✗ 112

✓ 116

✗ 118

✗ 120

Question Number : 58 Question Id : 16794310662 Question Type : MCQ Option Shuffling : Yes Display Question Number : Yes
Single Line Question Option : No Option Orientation : Vertical

Correct : 1 Wrong : 0.25

यदि कंपनी A का 2008 में आय कंपनी B के 2010 के व्यय के बराबर हो तो 2008 में A के व्यय और 2010 में B की आय के बीच क्या अनुपात होगा?

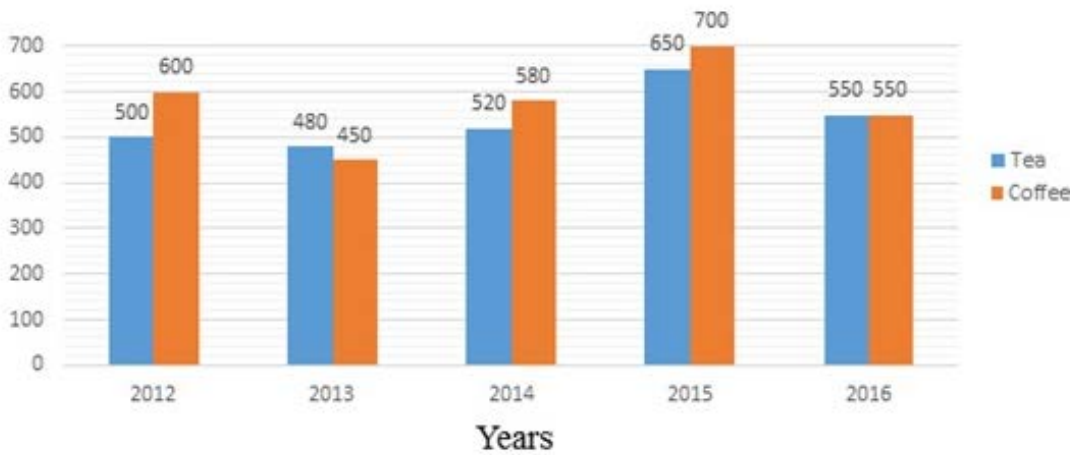
- Options :
- ✗ 28 : 29
 - ✗ 28 : 31
 - ✗ 100 : 189
 - ✓ 100 : 203

Sub-Section Number: 4
Sub-Section Id: 167943664
Question Shuffling Allowed : Yes

Question Id : 16794310663 Question Type : COMPREHENSION Sub Question Shuffling Allowed : Yes Group Comprehension Questions : No
Question Numbers : (59 to 60)
Question Label : Comprehension

Study the following bar graph, which shows the exports of tea and coffee (in million kg) by a country increasing different years, and answer the question that follows.

Export of Tea and Coffee (in millions kg)



Sub questions

Question Number : 59 Question Id : 16794310664 Question Type : MCQ Option Shuffling : Yes Display Question Number : Yes
Single Line Question Option : No Option Orientation : Vertical
Correct : 1 Wrong : 0.25

Total export of coffee is what percent more than the total exports of tea over the given years?

Options :

✗ $6\frac{1}{3}$

✓ $6\frac{2}{3}$

✗ $8\frac{1}{3}$

✗ $8\frac{2}{3}$

Question Number : 60 Question Id : 16794310665 Question Type : MCQ Option Shuffling : Yes Display Question Number : Yes
Single Line Question Option : No Option Orientation : Vertical

Correct : 1 Wrong : 0.25

Average exports of coffee during 2014, 2015 and 2016 exceeds the average exports of tea during 2012, 2013 and 2014 by:

Options :

✗ 12%

✗ 18%

✗ 20%

✓ 22%

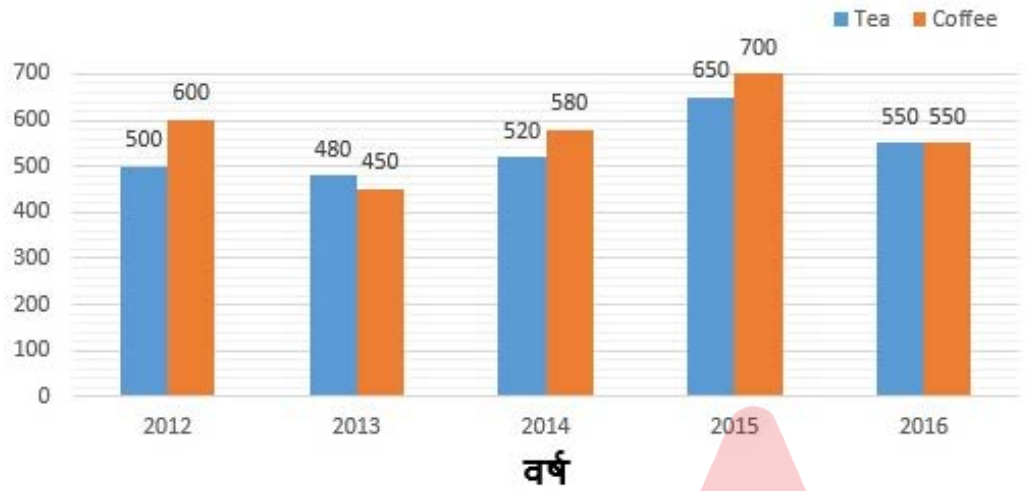
Question Id : 16794310663 Question Type : COMPREHENSION Sub Question Shuffling Allowed : Yes Group Comprehension Questions : No

Question Numbers : (59 to 60)

Question Label : Comprehension

निम्नलिखित बार ग्राफ का अध्ययन करें जो किसी देश द्वारा विभिन्न वर्षों में चाय और कॉफी के (मिलियन किलोग्राम में) निर्यातों को दर्शाता है और प्रश्नों के उत्तर दें।

चाय और कॉफी का निर्यात (मिलियन किलोग्राम में)



Sub questions

Question Number : 59 Question Id : 16794310664 Question Type : MCQ Option Shuffling : Yes Display Question Number : Yes
Single Line Question Option : No Option Orientation : Vertical
Correct : 1 Wrong : 0.25

दिए गए वर्षों में कॉफी का कुल निर्यात चाय के कुल निर्यात से कितना प्रतिशत ज़्यादा है?

Options :

☐ $6\frac{1}{3}$

☒ $6\frac{2}{3}$

☐ $8\frac{1}{3}$

☐ $8\frac{2}{3}$

Question Number : 60 Question Id : 16794310665 Question Type : MCQ Option Shuffling : Yes Display Question Number : Yes
Single Line Question Option : No Option Orientation : Vertical
Correct : 1 Wrong : 0.25

वर्ष 2014, 2015 और 2016 में कॉफी का कुल औसत निर्यात 2012, 2013 और 2014 में चाय के कुल औसत निर्यात से कितना प्रतिशत ज़्यादा है?

Options :

✗ 12%

✗ 18%

✗ 20%

✓ 22%

General English

Group Number :	4
Group Id :	167943315
Group Maximum Duration :	0
Group Minimum Duration :	0
Revisit allowed for view? :	No
Revisit allowed for edit? :	No
Break time:	0
Group Marks:	20

General English

Section Id :	167943374
Section Number :	1
Section type :	Online
Mandatory or Optional:	Mandatory
Number of Questions:	16
Number of Questions to be attempted:	16
Section Marks:	20
Display Number Panel:	Yes
Group All Questions:	No

Sub-Section Number:	1
Sub-Section Id:	167943665
Question Shuffling Allowed :	Yes

Select the most appropriate option to fill in the blanks.

The Central Government informed _____ court that it was considering involving international experts for _____ conservation of the Taj Mahal.

Options :

- ☒ the, the
- ☐ the, a
- ☐ a, the
- ☐ no word required, a

Question Number : 61 Question Id : 16794310666 Question Type : MCQ Option Shuffling : Yes Display Question Number : Yes
Single Line Question Option : No Option Orientation : Vertical
Correct : 1 Wrong : 0.25

Select the most appropriate option to fill in the blanks.

The Central Government informed _____ court that it was considering involving international experts for _____ conservation of the Taj Mahal.

Options :

- ☒ the, the
- ☐ the, a
- ☐ a, the
- ☐ no word required, a

Question Number : 62 Question Id : 16794310667 Question Type : MCQ Option Shuffling : Yes Display Question Number : Yes
Single Line Question Option : No Option Orientation : Vertical
Correct : 1 Wrong : 0.25

Select the most appropriate option to fill in the blank.

The river Yamuna which flows _____ many cities has become highly polluted.

Options :

- ☐ under
- ☐ above
- ☐ behind

✓ through

Question Number : 62 Question Id : 16794310667 Question Type : MCQ Option Shuffling : Yes Display Question Number : Yes
Single Line Question Option : No Option Orientation : Vertical

Correct : 1 Wrong : 0.25

Select the most appropriate option to fill in the blank.

The river Yamuna which flows _____ many cities has become highly polluted.

Options :

✗ under

✗ above

✗ behind

✓ through

Question Number : 63 Question Id : 16794310668 Question Type : MCQ Option Shuffling : Yes Display Question Number : Yes
Single Line Question Option : No Option Orientation : Vertical

Correct : 1 Wrong : 0.25

Select the most appropriate option to fill in the blank.

Last week, there were frequent storms in Delhi. _____, many old trees fell and a lot of damage was done to property.

Options :

✗ Fortunately

✓ Consequently

✗ Strangely

✗ Otherwise

Question Number : 63 Question Id : 16794310668 Question Type : MCQ Option Shuffling : Yes Display Question Number : Yes
Single Line Question Option : No Option Orientation : Vertical

Correct : 1 Wrong : 0.25

Select the most appropriate option to fill in the blank.

Last week, there were frequent storms in Delhi. _____, many old trees fell and a lot of damage was done to property.

Options :

✗ Fortunately

✓ Consequently

✘ Strangely

✘ Otherwise

Question Number : 64 Question Id : 16794310669 Question Type : MCQ Option Shuffling : Yes Display Question Number : Yes
Single Line Question Option : No Option Orientation : Vertical

Correct : 1 Wrong : 0.25

Select the most appropriate option to fill in the blank. Answer suitably according to the given question.

A: Will you tell the maid to come and water the plants when you are away on vacation?

B: I _____ to her already and she is prepared to come and water the plants.

Options :

✘ talked

✘ am talking

✘ will have talked

✔ have talked

Question Number : 64 Question Id : 16794310669 Question Type : MCQ Option Shuffling : Yes Display Question Number : Yes
Single Line Question Option : No Option Orientation : Vertical

Correct : 1 Wrong : 0.25

Select the most appropriate option to fill in the blank. Answer suitably according to the given question.

A: Will you tell the maid to come and water the plants when you are away on vacation?

B: I _____ to her already and she is prepared to come and water the plants.

Options :

✘ talked

✘ am talking

✘ will have talked

✔ have talked

Question Number : 65 Question Id : 16794310670 Question Type : MCQ Option Shuffling : Yes Display Question Number : Yes
Single Line Question Option : No Option Orientation : Vertical

Correct : 1 Wrong : 0.25

Select the most appropriate synonym of the given word.

GRIM

Options :

- ☐ kind
- ☐ gentle
- ☐ easy
- ☒ gloomy

Question Number : 65 Question Id : 16794310670 Question Type : MCQ Option Shuffling : Yes Display Question Number : Yes
Single Line Question Option : No Option Orientation : Vertical

Correct : 1 Wrong : 0.25

Select the most appropriate synonym of the given word.

GRIM

Options :

- ☐ kind
- ☐ gentle
- ☐ easy
- ☒ gloomy

Question Number : 66 Question Id : 16794310671 Question Type : MCQ Option Shuffling : Yes Display Question Number : Yes
Single Line Question Option : No Option Orientation : Vertical

Correct : 1 Wrong : 0.25

Select the most appropriate synonym of the given word.

RUTHLESS

Options :

- ☐ dangerous
- ☐ merciful
- ☒ brutal
- ☐ deceitful

Question Number : 66 Question Id : 16794310671 Question Type : MCQ Option Shuffling : Yes Display Question Number : Yes
Single Line Question Option : No Option Orientation : Vertical

Correct : 1 Wrong : 0.25

Select the most appropriate synonym of the given word.

RUTHLESS

Options :

✗ dangerous

✗ merciful

✓ brutal

✗ deceitful

Question Number : 67 Question Id : 16794310672 Question Type : MCQ Option Shuffling : Yes Display Question Number : Yes
Single Line Question Option : No Option Orientation : Vertical

Correct : 1 Wrong : 0.25

Select the most appropriate antonym of the given word.

UNEASY

Options :

✗ doubtful

✗ awkward

✓ comfortable

✗ nervous

Question Number : 67 Question Id : 16794310672 Question Type : MCQ Option Shuffling : Yes Display Question Number : Yes
Single Line Question Option : No Option Orientation : Vertical

Correct : 1 Wrong : 0.25

Select the most appropriate antonym of the given word.

UNEASY

Options :

✗ doubtful

✗ awkward

✓ comfortable

✗ nervous

Question Number : 68 Question Id : 16794310673 Question Type : MCQ Option Shuffling : Yes Display Question Number : Yes
Single Line Question Option : No Option Orientation : Vertical

Correct : 1 Wrong : 0.25

Select the word which is NOT an antonym of another word by way of adding a prefix.

Options :

- ☒ miserable
- ☐ misguided
- ☐ misfortune
- ☐ misjudge

Question Number : 68 Question Id : 16794310673 Question Type : MCQ Option Shuffling : Yes Display Question Number : Yes
Single Line Question Option : No Option Orientation : Vertical

Correct : 1 Wrong : 0.25

Select the word which is NOT an antonym of another word by way of adding a prefix.

Options :

- ☒ miserable
- ☐ misguided
- ☐ misfortune
- ☐ misjudge

Question Number : 69 Question Id : 16794310674 Question Type : MCQ Option Shuffling : Yes Display Question Number : Yes
Single Line Question Option : No Option Orientation : Vertical

Correct : 1 Wrong : 0.25

Fill in the blank with the most appropriate phrase.

It is such a difficult poem that I cannot _____ its meaning.

Options :

- ☐ pull out
- ☐ get out
- ☒ make out
- ☐ take out

Question Number : 69 Question Id : 16794310674 Question Type : MCQ Option Shuffling : Yes Display Question Number : Yes
Single Line Question Option : No Option Orientation : Vertical
Correct : 1 Wrong : 0.25

Fill in the blank with the most appropriate phrase.

It is such a difficult poem that I cannot _____ its meaning.

Options :

✗ pull out

✗ get out

✓ make out

✗ take out

Question Number : 70 Question Id : 16794310675 Question Type : MCQ Option Shuffling : Yes Display Question Number : Yes
Single Line Question Option : No Option Orientation : Vertical
Correct : 1 Wrong : 0.25

Select the option that gives the most appropriate meaning of the underlined idiom in the given context.

The two maids in the house don't see eye to eye with each other on many matters.

Options :

✗ have an objection

✗ keep a watch on

✗ express surprise

✓ agree completely

Question Number : 70 Question Id : 16794310675 Question Type : MCQ Option Shuffling : Yes Display Question Number : Yes
Single Line Question Option : No Option Orientation : Vertical
Correct : 1 Wrong : 0.25

Select the option that gives the most appropriate meaning of the underlined idiom in the given context.

The two maids in the house don't see eye to eye with each other on many matters.

Options :

✗ have an objection

✗ keep a watch on

✗ express surprise

✓ agree completely

Question Number : 71 Question Id : 16794310676 Question Type : MCQ Option Shuffling : Yes Display Question Number : Yes
Single Line Question Option : No Option Orientation : Vertical

Correct : 1 Wrong : 0.25

Fill in the blank with the most appropriate option.

The teacher promised to _____ a prize to the student who stood first in the class.

Options :

✗ reward

✓ award

✗ gift

✗ promote

Question Number : 71 Question Id : 16794310676 Question Type : MCQ Option Shuffling : Yes Display Question Number : Yes
Single Line Question Option : No Option Orientation : Vertical

Correct : 1 Wrong : 0.25

Fill in the blank with the most appropriate option.

The teacher promised to _____ a prize to the student who stood first in the class.

Options :

✗ reward

✓ award

✗ gift

✗ promote

Question Number : 72 Question Id : 16794310677 Question Type : MCQ Option Shuffling : Yes Display Question Number : Yes
Single Line Question Option : No Option Orientation : Vertical

Correct : 1 Wrong : 0.25

Fill in the blank with the most appropriate option.

From his grim expression I could decipher that the news was _____.

Options :

✗ hopeful

- ✗ fortunate
- ✗ confusing
- ✓ depressing

Question Number : 72 Question Id : 16794310677 Question Type : MCQ Option Shuffling : Yes Display Question Number : Yes
Single Line Question Option : No Option Orientation : Vertical

Correct : 1 Wrong : 0.25

Fill in the blank with the most appropriate option.

From his grim expression I could decipher that the news was _____.

Options :

- ✗ hopeful
- ✗ fortunate
- ✗ confusing
- ✓ depressing

Question Number : 73 Question Id : 16794310678 Question Type : MCQ Option Shuffling : Yes Display Question Number : Yes
Single Line Question Option : No Option Orientation : Vertical

Correct : 1 Wrong : 0.25

Select the sentence structure that is meaningful and grammatically correct.

Options :

- ✗ A workshop for traditional spinning, weaving and dyeing the textile museum also has.
- ✓ The textile museum also has a workshop for traditional spinning, weaving and dyeing.
- ✗ A workshop also has the textile museum for traditional spinning, weaving and dyeing.
- ✗ The textile museum also has traditional spinning, weaving and dyeing a workshop for.

Question Number : 73 Question Id : 16794310678 Question Type : MCQ Option Shuffling : Yes Display Question Number : Yes
Single Line Question Option : No Option Orientation : Vertical

Correct : 1 Wrong : 0.25

Select the sentence structure that is meaningful and grammatically correct.

Options :

- ✗ A workshop for traditional spinning, weaving and dyeing the textile museum also has.

- ✓ The textile museum also has a workshop for traditional spinning, weaving and dyeing.
- ✗ A workshop also has the textile museum for traditional spinning, weaving and dyeing.
- ✗ The textile museum also has traditional spinning, weaving and dyeing a workshop for.

Question Number : 74 Question Id : 16794310679 Question Type : MCQ Option Shuffling : Yes Display Question Number : Yes
Single Line Question Option : No Option Orientation : Vertical

Correct : 1 Wrong : 0.25

Select the sentence structure that is meaningful and grammatically correct.

Options :

- ✗ Against enormous giants and knights, against huge dragons in ancient myths, heroes are often seen fighting.
- ✗ Heroes are seen fighting against enormous giants in ancient myths, often and knights, against huge dragons.
- ✗ In ancient myths, enormous giants and knights, are often seen fighting against heroes against huge dragons.
- ✓ In ancient myths, heroes are often seen fighting against enormous giants and knights, against huge dragons.

Question Number : 74 Question Id : 16794310679 Question Type : MCQ Option Shuffling : Yes Display Question Number : Yes
Single Line Question Option : No Option Orientation : Vertical

Correct : 1 Wrong : 0.25

Select the sentence structure that is meaningful and grammatically correct.

Options :

- ✗ Against enormous giants and knights, against huge dragons in ancient myths, heroes are often seen fighting.
- ✗ Heroes are seen fighting against enormous giants in ancient myths, often and knights, against huge dragons.
- ✗ In ancient myths, enormous giants and knights, are often seen fighting against heroes against huge dragons.
- ✓ In ancient myths, heroes are often seen fighting against enormous giants and knights, against huge dragons.

Question Number : 75 Question Id : 16794310680 Question Type : MCQ Option Shuffling : Yes Display Question Number : Yes
Single Line Question Option : No Option Orientation : Vertical

Correct : 1 Wrong : 0.25

Select the sentence structure that is meaningful and grammatically correct.

Options :

- ✓ There were three survivors from the Cubana Airlines flight which went down into a field just after takeoff.
- ✗ There were three survivors from a field which went down into the Cubana Airlines flight just after takeoff.
- ✗ From the Cubana Airlines flight there were three survivors which went down into a field just after takeoff.

✖ The Cubana Airlines flight which went down into a field just after takeoff there were three survivors from.

Question Number : 75 Question Id : 16794310680 Question Type : MCQ Option Shuffling : Yes Display Question Number : Yes
Single Line Question Option : No Option Orientation : Vertical

Correct : 1 Wrong : 0.25

Select the sentence structure that is meaningful and grammatically correct.

Options :

✔ There were three survivors from the Cubana Airlines flight which went down into a field just after takeoff.

✖ There were three survivors from a field which went down into the Cubana Airlines flight just after takeoff.

✖ From the Cubana Airlines flight there were three survivors which went down into a field just after takeoff.

✖ The Cubana Airlines flight which went down into a field just after takeoff there were three survivors from.

Sub-Section Number: 2
Sub-Section Id: 167943666
Question Shuffling Allowed : Yes

Question Id : 16794310681 Question Type : COMPREHENSION Sub Question Shuffling Allowed : Yes Group Comprehension
Questions : No

Question Numbers : (76 to 80)

Question Label : Comprehension



Read the following passage and answer the questions that follow.

Geneva, May 20: In the backdrop stood the United Nations as hundreds with blue yoga mats gathered near the Broken Chair (a monumental wooden sculpture) to be a part of the weeklong 71st World Health Assembly (WHA). In a first, the Indian government has pushed for a yoga session ahead of the annual World Health Organisation (WHO) event in Switzerland to propagate Ayush globally.

“Yoga is not a religion, it is a way of living that aims towards a healthy mind in a healthy body. I am sure that WHO’s slogan for ‘health for all’ shall be fulfilled in one of the best ways through the propagation and practice of yoga,” said Union Health Minister J. P. Nadda soon after he met WHO director general Dr. Tedros Adhanom Ghebreyesus. Nadda said that “yoga is an important aspect to stay healthy”, and more sessions are planned with WHO in the coming days.

The planning for a yoga session ahead of the 71st WHA has been under way for a month and a half in Geneva. On Sunday, yoga got space amid an African dancing session, and Thai and Dutch workout as the WHO set the floor open for its global event ‘Walk The Talk’. The 30-minute session saw an excited turnout from various countries, with hundreds participating in an 8 km walk before stretching on yoga mats.

At 62, retired US-based human rights activist Laura Striker said she went for the yoga session to learn the basics. “I had back surgery recently, and may benefit from yoga,” she said. From Sri Lanka, Chandika Indikadahena was the first to join Sunday’s session.

“Nowadays, people are stressed and yoga helps.” Catherina Tadiylova (23), who represents an NGO in the assembly, said yoga culture is also growing in Europe.

In February, the WHO set up an Ayush department under its traditional medicine unit. “Siddha and Unani make immense contribution to the health system. We are trying to get it acknowledged. In India, Sri Lanka, Bangladesh, Uzbekistan, Nepal and South America, it is already practised as part of the health system,” said Dr Geetha Krishnan, who works with the traditional medicine unit and is currently working to structure the Ayush department in WHO headquarters in Geneva.

The Indian government is set to hold three more yoga sessions in the UN during the week-long assembly. Officials with the Indian delegation said that International Yoga Day on 21 June will be planned as a grand event. “Exercising is important. Even if you do it daily for some time, it could lead to a healthy life,” the WHO director general said.

From Indian Express, 21 May 2018

Sub questions

Question Number : 76 Question Id : 16794310682 Question Type : MCQ Option Shuffling : Yes Display Question Number : Yes
Single Line Question Option : No Option Orientation : Vertical
Correct : 1 Wrong : 0.25

From the reading of the passage one can infer that the passage is:

Options :

- ☐ an advertisement to propagate Yoga
- ☐ an article on Yoga and its health benefits
- ☒ a news item on India's efforts to push yoga in an international event
- ☐ a report of the steps taken by India to popularise yoga

Question Number : 77 Question Id : 16794310683 Question Type : MCQ Option Shuffling : Yes Display Question Number : Yes
Single Line Question Option : No Option Orientation : Vertical
Correct : 1 Wrong : 0.25

What is the main event where Yoga sessions are being held?

Options :

- ☒ World Health Assembly
- ☐ United Nation's general session
- ☐ WHO's General Body Meeting
- ☐ WHO's Walk the Talk

Question Number : 78 Question Id : 16794310684 Question Type : MCQ Option Shuffling : Yes Display Question Number : Yes
Single Line Question Option : No Option Orientation : Vertical
Correct : 1 Wrong : 0.25

Apart from India, in which set of countries is Yoga already practiced as part of health system?

Options :

- ☐ Uzbekistan, Sri Lanka, Switzerland
- ☐ Uzbekistan, America, Sri Lanka

✓ Bangladesh, South America, Nepal

✗ Bangladesh, Switzerland, South America

Question Number : 79 Question Id : 16794310685 Question Type : MCQ Option Shuffling : Yes Display Question Number : Yes
Single Line Question Option : No Option Orientation : Vertical
Correct : 1 Wrong : 0.25

Who said that Yoga helps people who are stressed?

Options :

✗ Dr. Tedros Adhanom Ghebreyesus

✗ Laura Striker

✗ Catherina Tadiyova

✓ Chandika Indikadahena

Question Number : 80 Question Id : 16794310686 Question Type : MCQ Option Shuffling : Yes Display Question Number : Yes
Single Line Question Option : No Option Orientation : Vertical
Correct : 1 Wrong : 0.25

Which statement is NOT true according to the passage?

Options :

✗ The WHO has set up an Ayush department under its traditional medicine unit.

✗ Dr. Geetha Krishnan is currently working to structure the Ayush department in WHO headquarters.

✓ The Indian government is set to hold a yoga session every day in the UN during the week-long assembly.

✗ The Indian government has pushed for a yoga session ahead of the annual World Health Organisation (WHO) event in Switzerland.

Question Id : 16794310681 Question Type : COMPREHENSION Sub Question Shuffling Allowed : Yes Group Comprehension Questions : No

Question Numbers : (76 to 80)

Question Label : Comprehension

Read the following passage and answer the questions that follow.

Geneva, May 20: In the backdrop stood the United Nations as hundreds with blue yoga mats gathered near the Broken Chair (a monumental wooden sculpture) to be a part of the weeklong 71st World Health Assembly (WHA). In a first, the Indian government has pushed for a yoga session ahead of the annual World Health Organisation (WHO) event in Switzerland to propagate Ayush globally.

“Yoga is not a religion, it is a way of living that aims towards a healthy mind in a healthy body. I am sure that WHO’s slogan for ‘health for all’ shall be fulfilled in one of the best ways through the propagation and practice of yoga,” said Union Health Minister J. P. Nadda soon after he met WHO director general Dr. Tedros Adhanom Ghebreyesus. Nadda said that “yoga is an important aspect to stay healthy”, and more sessions are planned with WHO in the coming days.

The planning for a yoga session ahead of the 71st WHA has been under way for a month and a half in Geneva. On Sunday, yoga got space amid an African dancing session, and Thai and Dutch workout as the WHO set the floor open for its global event ‘Walk The Talk’. The 30-minute session saw an excited turnout from various countries, with hundreds participating in an 8 km walk before stretching on yoga mats.

At 62, retired US-based human rights activist Laura Striker said she went for the yoga session to learn the basics. “I had back surgery recently, and may benefit from yoga,” she said. From Sri Lanka, Chandika Indikadahena was the first to join Sunday’s session.

“Nowadays, people are stressed and yoga helps.” Catherina Tadiylova (23), who represents an NGO in the assembly, said yoga culture is also growing in Europe.

In February, the WHO set up an Ayush department under its traditional medicine unit. “Siddha and Unani make immense contribution to the health system. We are trying to get it acknowledged. In India, Sri Lanka, Bangladesh, Uzbekistan, Nepal and South America, it is already practised as part of the health system,” said Dr Geetha Krishnan, who works with the traditional medicine unit and is currently working to structure the Ayush department in WHO headquarters in Geneva.

The Indian government is set to hold three more yoga sessions in the UN during the week-long assembly. Officials with the Indian delegation said that International Yoga Day on 21 June will be planned as a grand event. “Exercising is important. Even if you do it daily for some time, it could lead to a healthy life,” the WHO director general said.

From Indian Express, 21 May 2018

Sub questions

Question Number : 76 Question Id : 16794310682 Question Type : MCQ Option Shuffling : Yes Display Question Number : Yes
Single Line Question Option : No Option Orientation : Vertical
Correct : 1 Wrong : 0.25

From the reading of the passage one can infer that the passage is:

Options :

- ☐ an advertisement to propagate Yoga
- ☐ an article on Yoga and its health benefits
- ☒ a news item on India's efforts to push yoga in an international event
- ☐ a report of the steps taken by India to popularise yoga

Question Number : 77 Question Id : 16794310683 Question Type : MCQ Option Shuffling : Yes Display Question Number : Yes
Single Line Question Option : No Option Orientation : Vertical
Correct : 1 Wrong : 0.25

What is the main event where Yoga sessions are being held?

Options :

- ☒ World Health Assembly
- ☐ United Nation's general session
- ☐ WHO's General Body Meeting
- ☐ WHO's Walk the Talk

Question Number : 78 Question Id : 16794310684 Question Type : MCQ Option Shuffling : Yes Display Question Number : Yes
Single Line Question Option : No Option Orientation : Vertical
Correct : 1 Wrong : 0.25

Apart from India, in which set of countries is Yoga already practiced as part of health system?

Options :

- ☐ Uzbekistan, Sri Lanka, Switzerland
- ☐ Uzbekistan, America, Sri Lanka

✓ Bangladesh, South America, Nepal

✗ Bangladesh, Switzerland, South America

Question Number : 79 Question Id : 16794310685 Question Type : MCQ Option Shuffling : Yes Display Question Number : Yes
Single Line Question Option : No Option Orientation : Vertical

Correct : 1 Wrong : 0.25

Who said that Yoga helps people who are stressed?

Options :

✗ Dr. Tedros Adhanom Ghebreyesus

✗ Laura Striker

✗ Catherina Tadiyova

✓ Chandika Indikadahena

Question Number : 80 Question Id : 16794310686 Question Type : MCQ Option Shuffling : Yes Display Question Number : Yes
Single Line Question Option : No Option Orientation : Vertical

Correct : 1 Wrong : 0.25

Which statement is NOT true according to the passage?

Options :

✗ The WHO has set up an Ayush department under its traditional medicine unit.

✗ Dr. Geetha Krishnan is currently working to structure the Ayush department in WHO headquarters.

✓ The Indian government is set to hold a yoga session every day in the UN during the week-long assembly.

✗ The Indian government has pushed for a yoga session ahead of the annual World Health Organisation (WHO) event in Switzerland.

General Hindi

Group Number :

5

Group Id :

167943316

Group Maximum Duration :

0

Group Minimum Duration :

0

Revisit allowed for view? : No
Revisit allowed for edit? : No
Break time: 0
Group Marks: 20

General Hindi

Section Id : 167943375
Section Number : 1
Section type : Online
Mandatory or Optional: Mandatory
Number of Questions: 16
Number of Questions to be attempted: 16
Section Marks: 20
Display Number Panel: Yes
Group All Questions: No

Sub-Section Number: 1
Sub-Section Id: 167943667
Question Shuffling Allowed : Yes

Question Id : 16794310687 Question Type : COMPREHENSION Sub Question Shuffling Allowed : Yes Group Comprehension Questions : No
Question Numbers : (81 to 85)
Question Label : Comprehension



नीचे दिये गए गद्यांश को पढ़कर पूछे गये प्रश्नों के उत्तर दीजिए।

पं० चंद्रधर शर्मा गुलेरी की 'उसने कहा था' नामक कहानी 1915 में प्रकाशित हुई। संवेदना और शिल्प की दृष्टि से यह कहानी बेजोड़ थी। 1916 में प्रेमचंद की कहानी 'पंच परमेश्वर' प्रकाशित हुई। इस कहानी को अभूतपूर्व लोकप्रियता प्राप्त हुई। इस कहानी में कोई शिल्पगत चमत्कार नहीं, इसमें ग्रामीण जीवन, किसानों की सहृदयता, उनके काँइयाँपन का चित्र और उनके आदर्श की स्थापना है। यह आदर्श गांधीवाद से जुड़ा है। पूरी कहानी में हमारे परिचित जीवन की आत्मीयता स्थापित है। कथा कहने का ढंग बिल्कुल सहज है। प्रेमचंद की कहानियाँ बहुत सहज ढंग से शुरू होती हैं। वे अपनी उठान में पंचतंत्र या जातकों की याद दिला देती हैं। प्रेमचंद की कहानियों का संसार बहुत व्यापक एवं विविधतापूर्ण है। वह अपने काल के उत्तर भारत का शब्द-रूप है। प्रेमचंद की दृष्टि निस्संदेह वैज्ञानिक एवं प्रगतिशील है, किंतु वे अपनी कहानियों को जनमानस द्वारा अंगीकृत भी बना सकते हैं - यह उनकी निजी रचनात्मक सफलता है। उनकी प्रारंभिक कहानियों पर लोकवार्ताओं का प्रभाव है, जैसे - 'सारंगा सदावृक्ष', 'आत्माराम', 'दामुल का कैदी' आदि। 'दामुल का कैदी' में तो कथानक गढ़ने में पुनर्जन्म का भी सहारा लिया गया है।

Sub questions

Question Number : 81 Question Id : 16794310688 Question Type : MCQ Option Shuffling : Yes Display Question Number : Yes
Single Line Question Option : No Option Orientation : Vertical
Correct : 1 Wrong : 0.25

'उसने कहा था' कहानी का प्रकाशन कब हुआ?

Options :

✗ 1914

✓ 1915

✗ 1916

✗ 1917

Question Number : 82 Question Id : 16794310689 Question Type : MCQ Option Shuffling : Yes Display Question Number : Yes
Single Line Question Option : No Option Orientation : Vertical
Correct : 1 Wrong : 0.25

‘पंच परमेश्वर’ किसकी कहानी है?

Options :

- ✘ चंद्रधर शर्मा गुलेरी
- ✘ यशपाल
- ✔ प्रेमचन्द
- ✘ मोहन राकेश

Question Number : 83 Question Id : 16794310690 Question Type : MCQ Option Shuffling : Yes Display Question Number : Yes
Single Line Question Option : No Option Orientation : Vertical

Correct : 1 Wrong : 0.25

प्रेमचन्द की कहानियों का अदर्शवाद किससे जुड़ा है?

Options :

- ✘ उदारवाद
- ✘ व्यक्तिवाद
- ✘ मार्क्सवाद
- ✔ गाँधीवाद

Question Number : 84 Question Id : 16794310691 Question Type : MCQ Option Shuffling : Yes Display Question Number : Yes
Single Line Question Option : No Option Orientation : Vertical

Correct : 1 Wrong : 0.25

प्रेमचन्द की कहानियाँ किस भारत का शब्द रूप हैं?

Options :

- ✔ उत्तर भारत
- ✘ दक्षिण भारत
- ✘ पूर्वी भारत
- ✘ पश्चिमी भारत

Question Number : 85 Question Id : 16794310692 Question Type : MCQ Option Shuffling : Yes Display Question Number : Yes
Single Line Question Option : No Option Orientation : Vertical

Correct : 1 Wrong : 0.25

किस कहानी में पुनर्जन्म का सहारा लिया गया है?

Options :

✖ सारंगा सदावृक्ष

✖ आत्माराम

✔ दामुल का कैदी

✖ पंच परमेश्वर

Question Id : 16794310687 Question Type : COMPREHENSION Sub Question Shuffling Allowed : Yes Group Comprehension Questions : No

Question Numbers : (81 to 85)

Question Label : Comprehension

नीचे दिये गए गद्यांश को पढ़कर पूछे गये प्रश्नों के उत्तर दीजिए।

पं० चंद्रधर शर्मा गुलेरी की 'उसने कहा था' नामक कहानी 1915 में प्रकाशित हुई। संवेदना और शिल्प की दृष्टि से यह कहानी बेजोड़ थी। 1916 में प्रेमचंद की कहानी 'पंच परमेश्वर' प्रकाशित हुई। इस कहानी को अभूतपूर्व लोकप्रियता प्राप्त हुई। इस कहानी में कोई शिल्पगत चमत्कार नहीं, इसमें ग्रामीण जीवन, किसानों की सहृदयता, उनके काँइयाँपन का चित्र और उनके आदर्श की स्थापना है। यह आदर्श गांधीवाद से जुड़ा है। पूरी कहानी में हमारे परिचित जीवन की आत्मीयता स्थापित है। कथा कहने का ढंग बिल्कुल सहज है। प्रेमचंद की कहानियाँ बहुत सहज ढंग से शुरू होती हैं। वे अपनी उठान में पंचतंत्र या जातकों की याद दिला देती हैं। प्रेमचंद की कहानियों का संसार बहुत व्यापक एवं विविधतापूर्ण है। वह अपने काल के उत्तर भारत का शब्द-रूप है। प्रेमचंद की दृष्टि निस्संदेह वैज्ञानिक एवं प्रगतिशील है, किंतु वे अपनी कहानियों को जनमानस द्वारा अंगीकृत भी बना सकते हैं - यह उनकी निजी रचनात्मक सफलता है। उनकी प्रारंभिक कहानियों पर लोकवार्ताओं का प्रभाव है, जैसे - 'सारंगा सदावृक्ष', 'आत्माराम', 'दामुल का कैदी' आदि। 'दामुल का कैदी' में तो कथानक गढ़ने में पुनर्जन्म का भी सहारा लिया गया है।

Sub questions

Question Number : 81 Question Id : 16794310688 Question Type : MCQ Option Shuffling : Yes Display Question Number : Yes
Single Line Question Option : No Option Orientation : Vertical
Correct : 1 Wrong : 0.25

‘उसने कहा था’ कहानी का प्रकाशन कब हुआ?

Options :

✗ 1914

✓ 1915

✗ 1916

✗ 1917

Question Number : 82 Question Id : 16794310689 Question Type : MCQ Option Shuffling : Yes Display Question Number : Yes
Single Line Question Option : No Option Orientation : Vertical
Correct : 1 Wrong : 0.25

‘पंच परमेश्वर’ किसकी कहानी है?

Options :

✗ चंद्रधर शर्मा गुलेरी

✗ यशपाल

✓ प्रेमचन्द

✗ मोहन राकेश

Question Number : 83 Question Id : 16794310690 Question Type : MCQ Option Shuffling : Yes Display Question Number : Yes
Single Line Question Option : No Option Orientation : Vertical
Correct : 1 Wrong : 0.25

प्रेमचन्द की कहानियों का अदर्शवाद किससे जुड़ा है?

Options :

✗ उदारवाद

✗ व्यक्तिवाद

✗ मार्क्सवाद

✓ गाँधीवाद

Question Number : 84 Question Id : 16794310691 Question Type : MCQ Option Shuffling : Yes Display Question Number : Yes
Single Line Question Option : No Option Orientation : Vertical
Correct : 1 Wrong : 0.25

प्रेमचन्द की कहानियाँ किस भारत का शब्द रूप हैं?

Options :

- ✓ उत्तर भारत
- ✗ दक्षिण भारत
- ✗ पूर्वी भारत
- ✗ पश्चिमी भारत

Question Number : 85 Question Id : 16794310692 Question Type : MCQ Option Shuffling : Yes Display Question Number : Yes
Single Line Question Option : No Option Orientation : Vertical
Correct : 1 Wrong : 0.25

किस कहानी में पुनर्जन्म का सहारा लिया गया है?

Options :

- ✗ सारंगा सदावृक्ष
- ✗ आत्माराम
- ✓ दामुल का कैदी
- ✗ पंच परमेश्वर

Sub-Section Number: 2
Sub-Section Id: 167943668
Question Shuffling Allowed : Yes

Question Number : 86 Question Id : 16794310693 Question Type : MCQ Option Shuffling : Yes Display Question Number : Yes
Single Line Question Option : No Option Orientation : Vertical
Correct : 1 Wrong : 0.25

निम्न में तत्सम शब्द है:

Options :

- ✗ कौआ
- ✓ कोकिल

✖ गधा

✖ केकड़ा

Question Number : 86 Question Id : 16794310693 Question Type : MCQ Option Shuffling : Yes Display Question Number : Yes
Single Line Question Option : No Option Orientation : Vertical

Correct : 1 Wrong : 0.25

निम्न में तत्सम शब्द है:

Options :

✖ कौआ

✓ कोकिल

✖ गधा

✖ केकड़ा

Question Number : 87 Question Id : 16794310694 Question Type : MCQ Option Shuffling : Yes Display Question Number : Yes
Single Line Question Option : No Option Orientation : Vertical

Correct : 1 Wrong : 0.25

निम्न में तद्भव शब्द है:

Options :

✓ दूध

✖ दुर्बल

✖ द्वितीय

✖ स्थल

Question Number : 87 Question Id : 16794310694 Question Type : MCQ Option Shuffling : Yes Display Question Number : Yes
Single Line Question Option : No Option Orientation : Vertical

Correct : 1 Wrong : 0.25

निम्न में तद्भव शब्द है:

Options :

✓ दूध

✖ दुर्बल

❌ द्वितीय

❌ स्थल

Question Number : 88 Question Id : 16794310695 Question Type : MCQ Option Shuffling : Yes Display Question Number : Yes
Single Line Question Option : No Option Orientation : Vertical

Correct : 1 Wrong : 0.25

‘आशातीत’ का अर्थ है:

Options :

❌ आशा

❌ निराशा

❌ आशा से कम

✅ आशा से बहुत अधिक

Question Number : 88 Question Id : 16794310695 Question Type : MCQ Option Shuffling : Yes Display Question Number : Yes
Single Line Question Option : No Option Orientation : Vertical

Correct : 1 Wrong : 0.25

‘आशातीत’ का अर्थ है:

Options :

❌ आशा

❌ निराशा

❌ आशा से कम

✅ आशा से बहुत अधिक

Question Number : 89 Question Id : 16794310696 Question Type : MCQ Option Shuffling : Yes Display Question Number : Yes
Single Line Question Option : No Option Orientation : Vertical

Correct : 1 Wrong : 0.25

‘सज्जन’ का संधि-विच्छेद होगा:

Options :

❌ सः + जन

✅ सत् + जन

✖ सज् + जन

✖ सज्ज + न

Question Number : 89 Question Id : 16794310696 Question Type : MCQ Option Shuffling : Yes Display Question Number : Yes
Single Line Question Option : No Option Orientation : Vertical

Correct : 1 Wrong : 0.25

‘सज्जन’ का संधि-विच्छेद होगा:

Options :

✖ सः + जन

✔ सत् + जन

✖ सज् + जन

✖ सज्ज + न

Question Number : 90 Question Id : 16794310697 Question Type : MCQ Option Shuffling : Yes Display Question Number : Yes
Single Line Question Option : No Option Orientation : Vertical

Correct : 1 Wrong : 0.25

‘यथाशक्ति’ में समास है:

Options :

✖ तत्पुरुष

✖ द्वंद्व

✔ अव्ययीभाव

✖ दविगु

Question Number : 90 Question Id : 16794310697 Question Type : MCQ Option Shuffling : Yes Display Question Number : Yes
Single Line Question Option : No Option Orientation : Vertical

Correct : 1 Wrong : 0.25

‘यथाशक्ति’ में समास है:

Options :

✖ तत्पुरुष

✖ द्वंद्व

✓ अव्ययीभाव

✗ दविगु

Question Number : 91 Question Id : 16794310698 Question Type : MCQ Option Shuffling : Yes Display Question Number : Yes
Single Line Question Option : No Option Orientation : Vertical

Correct : 1 Wrong : 0.25

निम्न में से कौन-सा शब्द संज्ञा नहीं है?

Options :

✗ घर

✗ आकाश

✗ गंगा

✓ आप

Question Number : 91 Question Id : 16794310698 Question Type : MCQ Option Shuffling : Yes Display Question Number : Yes
Single Line Question Option : No Option Orientation : Vertical

Correct : 1 Wrong : 0.25

निम्न में से कौन-सा शब्द संज्ञा नहीं है?

Options :

✗ घर

✗ आकाश

✗ गंगा

✓ आप

Question Number : 92 Question Id : 16794310699 Question Type : MCQ Option Shuffling : Yes Display Question Number : Yes
Single Line Question Option : No Option Orientation : Vertical

Correct : 1 Wrong : 0.25

निम्नलिखित में कौन-सा शब्द स्त्रीलिंग है?

Options :

✓ समिति

✗ संकल्प

✗ प्रतिवेदन

✖ प्रशिक्षण

Question Number : 92 Question Id : 16794310699 Question Type : MCQ Option Shuffling : Yes Display Question Number : Yes
Single Line Question Option : No Option Orientation : Vertical

Correct : 1 Wrong : 0.25

निम्नलिखित में कौन-सा शब्द स्त्रीलिंग है?

Options :

✔ समिति

✖ संकल्प

✖ प्रतिवेदन

✖ प्रशिक्षण

Question Number : 93 Question Id : 16794310700 Question Type : MCQ Option Shuffling : Yes Display Question Number : Yes
Single Line Question Option : No Option Orientation : Vertical

Correct : 1 Wrong : 0.25

‘श्रीराम के अनेकों नाम हैं।’ वाक्य में अशुद्ध अंश है:

Options :

✖ श्रीराम

✖ के

✔ अनेकों

✖ नाम हैं।

Question Number : 93 Question Id : 16794310700 Question Type : MCQ Option Shuffling : Yes Display Question Number : Yes
Single Line Question Option : No Option Orientation : Vertical

Correct : 1 Wrong : 0.25

‘श्रीराम के अनेकों नाम हैं।’ वाक्य में अशुद्ध अंश है:

Options :

✖ श्रीराम

✖ के

✔ अनेकों

✖ नाम हैं।

Question Number : 94 Question Id : 16794310701 Question Type : MCQ Option Shuffling : Yes Display Question Number : Yes
Single Line Question Option : No Option Orientation : Vertical

Correct : 1 Wrong : 0.25

‘सूर्य उगता है।’ कैसा वाक्य है?

Options :

✖ उपवाक्य

✔ सरल वाक्य

✖ मिश्र वाक्य

✖ संयुक्त वाक्य

Question Number : 94 Question Id : 16794310701 Question Type : MCQ Option Shuffling : Yes Display Question Number : Yes
Single Line Question Option : No Option Orientation : Vertical

Correct : 1 Wrong : 0.25

‘सूर्य उगता है।’ कैसा वाक्य है?

Options :

✖ उपवाक्य

✔ सरल वाक्य

✖ मिश्र वाक्य

✖ संयुक्त वाक्य

Question Number : 95 Question Id : 16794310702 Question Type : MCQ Option Shuffling : Yes Display Question Number : Yes
Single Line Question Option : No Option Orientation : Vertical

Correct : 1 Wrong : 0.25

‘तुम कहाँ रहते हो?’ वाक्य है:

Options :

✖ निषेधवाचक

✖ आज्ञावाचक

✖ संदेहवाचक

✓ प्रश्नवाचक

Question Number : 95 Question Id : 16794310702 Question Type : MCQ Option Shuffling : Yes Display Question Number : Yes
Single Line Question Option : No Option Orientation : Vertical

Correct : 1 Wrong : 0.25

‘तुम कहाँ रहते हो?’ वाक्य है:

Options :

✗ निषेधवाचक

✗ आज्ञावाचक

✗ संदेहवाचक

✓ प्रश्नवाचक

Question Number : 96 Question Id : 16794310703 Question Type : MCQ Option Shuffling : Yes Display Question Number : Yes
Single Line Question Option : No Option Orientation : Vertical

Correct : 1 Wrong : 0.25

‘अमृत’ का पर्यायवाची है:

Options :

✓ पीयूष

✗ लोचन

✗ अम्बर

✗ वसन

Question Number : 96 Question Id : 16794310703 Question Type : MCQ Option Shuffling : Yes Display Question Number : Yes
Single Line Question Option : No Option Orientation : Vertical

Correct : 1 Wrong : 0.25

‘अमृत’ का पर्यायवाची है:

Options :

✓ पीयूष

✗ लोचन

✗ अम्बर

✖ वसन

Question Number : 97 Question Id : 16794310704 Question Type : MCQ Option Shuffling : Yes Display Question Number : Yes
Single Line Question Option : No Option Orientation : Vertical

Correct : 1 Wrong : 0.25

‘आँख’ का पर्यायवाची नहीं है:

Options :

✖ नेत्र

✔ पावक

✖ चक्षु

✖ नयन

Question Number : 97 Question Id : 16794310704 Question Type : MCQ Option Shuffling : Yes Display Question Number : Yes
Single Line Question Option : No Option Orientation : Vertical

Correct : 1 Wrong : 0.25

‘आँख’ का पर्यायवाची नहीं है:

Options :

✖ नेत्र

✔ पावक

✖ चक्षु

✖ नयन

Question Number : 98 Question Id : 16794310705 Question Type : MCQ Option Shuffling : Yes Display Question Number : Yes
Single Line Question Option : No Option Orientation : Vertical

Correct : 1 Wrong : 0.25

‘मेघ’ का पर्यायवाची है:

Options :

✔ वारिद

✖ अचल

✖ जलधि

✖ जलज

Question Number : 98 Question Id : 16794310705 Question Type : MCQ Option Shuffling : Yes Display Question Number : Yes
Single Line Question Option : No Option Orientation : Vertical

Correct : 1 Wrong : 0.25

‘मेघ’ का पर्यायवाची है:

Options :

✓ वारिद

✗ अचल

✗ जलधि

✗ जलज

Question Number : 99 Question Id : 16794310706 Question Type : MCQ Option Shuffling : Yes Display Question Number : Yes
Single Line Question Option : No Option Orientation : Vertical

Correct : 1 Wrong : 0.25

‘निरक्षर’ का विलोम है:

Options :

✗ अक्षर

✗ विद्वान

✓ साक्षर

✗ मूर्ख

Question Number : 99 Question Id : 16794310706 Question Type : MCQ Option Shuffling : Yes Display Question Number : Yes
Single Line Question Option : No Option Orientation : Vertical

Correct : 1 Wrong : 0.25

‘निरक्षर’ का विलोम है:

Options :

✗ अक्षर

✗ विद्वान

✓ साक्षर

✗ मूर्ख

Question Number : 100 Question Id : 16794310707 Question Type : MCQ Option Shuffling : Yes Display Question Number : Yes
Single Line Question Option : No Option Orientation : Vertical
Correct : 1 Wrong : 0.25

‘शीतल’ का विलोम होगा:

Options :

- ✖ ठंडा
- ✖ शीतोष्ण
- ✖ अशांत
- ✔ उष्ण

Question Number : 100 Question Id : 16794310707 Question Type : MCQ Option Shuffling : Yes Display Question Number : Yes
Single Line Question Option : No Option Orientation : Vertical
Correct : 1 Wrong : 0.25

‘शीतल’ का विलोम होगा:

Options :

- ✖ ठंडा
- ✖ शीतोष्ण
- ✖ अशांत
- ✔ उष्ण



Subject Related

Group Number :	6
Group Id :	167943317
Group Maximum Duration :	0
Group Minimum Duration :	0
Revisit allowed for view? :	No
Revisit allowed for edit? :	No
Break time:	0
Group Marks:	20

Subject Related

Section Id :	167943376
Section Number :	1
Section type :	Online
Mandatory or Optional:	Mandatory
Number of Questions:	20

Number of Questions to be attempted: 20
 Section Marks: 20
 Display Number Panel: Yes
 Group All Questions: No

Sub-Section Number: 1
 Sub-Section Id: 167943669
 Question Shuffling Allowed : Yes

Question Number : 101 Question Id : 16794310708 Question Type : MCQ Option Shuffling : Yes Display Question Number : Yes
 Single Line Question Option : No Option Orientation : Vertical
 Correct : 1 Wrong : 0.25

Geographia was written by:

Options :

- ☐ Strabo
- ☒ Ptolemy
- ☐ Pliny
- ☐ Aristotle

Question Number : 101 Question Id : 16794310708 Question Type : MCQ Option Shuffling : Yes Display Question Number : Yes
 Single Line Question Option : No Option Orientation : Vertical
 Correct : 1 Wrong : 0.25

‘जिओग्राफिया’ किसने लिखी थी?

Options :

- ☐ स्ट्रैबो
- ☒ टॉलेमी
- ☐ प्लिनी
- ☐ एरिस्टोटल (अरस्तू)

Question Number : 102 Question Id : 16794310709 Question Type : MCQ Option Shuffling : Yes Display Question Number : Yes
 Single Line Question Option : No Option Orientation : Vertical
 Correct : 1 Wrong : 0.25

In the early 19th century, the popular school of geographical thought is:

Options :

- ☒ Environmental determinism

- ✖ Possibilism
- ✖ Neo-determinism
- ✖ Cultural determinism

Question Number : 102 Question Id : 16794310709 Question Type : MCQ Option Shuffling : Yes Display Question Number : Yes
Single Line Question Option : No Option Orientation : Vertical

Correct : 1 Wrong : 0.25

19वीं सदी के आरंभ में, _____ भौगोलिक विचार का लोकप्रिय सम्प्रदाय है।

Options :

- ✔ पर्यावरणीय नियतिवाद
- ✖ संभावनावाद
- ✖ नव-नियतिवाद
- ✖ सांस्कृतिक नियतिवाद

Question Number : 103 Question Id : 16794310710 Question Type : MCQ Option Shuffling : Yes Display Question Number : Yes
Single Line Question Option : No Option Orientation : Vertical

Correct : 1 Wrong : 0.25

"Problems de Geographie Humane" is written by:

Options :

- ✖ Jean Brunhes
- ✖ Ratzel
- ✖ Martonne
- ✔ Albert Demangeon

Question Number : 103 Question Id : 16794310710 Question Type : MCQ Option Shuffling : Yes Display Question Number : Yes
Single Line Question Option : No Option Orientation : Vertical

Correct : 1 Wrong : 0.25

"प्रॉब्लम्स दे जियोग्राफ़े ह्युमेन (मानवीय भूगोल की समस्याएँ)" किसके द्वारा लिखी गई है?

Options :

- ✖ ज्यां ब्रून्स (जीन ब्रून्स)

✖ रेटज़ेल

✖ मर्टोने

✔ अल्बर्ट डिमेंजिऑन

Question Number : 104 Question Id : 16794310711 Question Type : MCQ Option Shuffling : Yes Display Question Number : Yes
Single Line Question Option : No Option Orientation : Vertical

Correct : 1 Wrong : 0.25

Read the below assertion and reason statements given:

Assertion (A): Investigation of similarities and differences over space is needed for recognizing a region

Reason (R): Areal differentiation deals with the degree of similarity as well as differences between the regions

Which of the following options holds true?

Options :

✔ Both A and R are true, and R is the correct explanation of A.

✖ Both A and R are true, and R is not the correct explanation of A.

✖ A is true, R is false.

✖ A is false, R is true.

Question Number : 104 Question Id : 16794310711 Question Type : MCQ Option Shuffling : Yes Display Question Number : Yes
Single Line Question Option : No Option Orientation : Vertical

Correct : 1 Wrong : 0.25

नीचे दिए गए अभिकथन और कारण को पढ़ें।

अभिकथन (A): एक क्षेत्र को पहचानने के लिए स्थान पर समानताओं और भिन्नताओं की जाँच आवश्यक है

कारण (R): क्षेत्रीय भिन्नता क्षेत्रों के बीच समानता के साथ-साथ भिन्नताओं के स्तर से भी सरोकार रखती है।

निम्नलिखित में से कौनसा विकल्प सही है?

Options :

✔ A और R दोनों सत्य हैं, और R, A की सही व्याख्या है।

✖ A और R दोनों सत्य हैं, और R, A की सही व्याख्या नहीं है।

✖ A सत्य है, R असत्य है।

✖ A असत्य है, R सत्य है।

Question Number : 105 Question Id : 16794310712 Question Type : MCQ Option Shuffling : Yes Display Question Number : Yes
Single Line Question Option : No Option Orientation : Vertical

Correct : 1 Wrong : 0.25

Who among the below proposed that Earth had been subjected to past ice age?

Options :

✖ Ramsay

✖ Penck

✔ Agassiz

✖ Jukes

Question Number : 105 Question Id : 16794310712 Question Type : MCQ Option Shuffling : Yes Display Question Number : Yes
Single Line Question Option : No Option Orientation : Vertical

Correct : 1 Wrong : 0.25

"कोई हिम युग नहीं है जिसके दौरान बर्फ की चादरों ने उत्तरी यूरोप के अधिकांश इलाके को ढक लिया था", भौगोलिक विचारकों में इस विचार का श्रेय किसे जाता है? निम्नलिखित में से किसने प्रस्तावित किया कि पृथ्वी विगत हिम युग की विषय-वस्तु रही थी?

Options :

✖ रामसे

✖ पेंक

✔ अगासिज़

✖ जूक्स

Question Number : 106 Question Id : 16794310713 Question Type : MCQ Option Shuffling : Yes Display Question Number : Yes
Single Line Question Option : No Option Orientation : Vertical

Correct : 1 Wrong : 0.25

As per who among the below, the whole world was divided into three continents for the first time?

Options :

✖ Eratosthenes

✖ Thales

✔ Herodotus

✖ Hecataeus

Question Number : 106 Question Id : 16794310713 Question Type : MCQ Option Shuffling : Yes Display Question Number : Yes
Single Line Question Option : No Option Orientation : Vertical

Correct : 1 Wrong : 0.25

निम्नलिखित में से किसके अनुसार पहली बार पूरे विश्व को तीन महाद्वीपों में विभाजित किया गया था?

Options :

✖ इरेटोस्थेनीज़

✖ थेल्स

✓ हिरोडोटस

✖ हिकेटियस

Question Number : 107 Question Id : 16794310714 Question Type : MCQ Option Shuffling : Yes Display Question Number : Yes
Single Line Question Option : No Option Orientation : Vertical

Correct : 1 Wrong : 0.25

Who wrote "Algamast"?

Options :

✖ Hipparcus

✓ Ptolemy

✖ Strabo

✖ Anaximander

Question Number : 107 Question Id : 16794310714 Question Type : MCQ Option Shuffling : Yes Display Question Number : Yes
Single Line Question Option : No Option Orientation : Vertical

Correct : 1 Wrong : 0.25

"एल्माजेस्ट" किसने लिखी थी?

Options :

✖ हिप्पारकस

✓ टॉलेमी

✖ स्ट्रैबो

✖ एनैक्सिमैडर

Question Number : 108 Question Id : 16794310715 Question Type : MCQ Option Shuffling : Yes Display Question Number : Yes
Single Line Question Option : No Option Orientation : Vertical

Correct : 1 Wrong : 0.25

Who stated, "Space is not a thing or event. It's a kind of framework for things and events, something like a system of pigeon holes, or a filling system for observation"?

Options :

✖ Varenius

✖ Ritter

✔ Immanuel Kant

✖ Humboldt

Question Number : 108 Question Id : 16794310715 Question Type : MCQ Option Shuffling : Yes Display Question Number : Yes
Single Line Question Option : No Option Orientation : Vertical

Correct : 1 Wrong : 0.25

किसने कहा था, "अंतरिक्ष कोई वस्तु या घटना नहीं है। यह वस्तुओं और घटनाओं के लिए एक प्रकार का ढांचा है, लगभग छोटे कोटरों की प्रणाली, या अवलोकन के लिए एक भरण प्रणाली के समान है"

Options :

✖ वारेनियस

✖ रिटर

✔ इमानुएल काण्ट

✖ हम्बोल्ट

Question Number : 109 Question Id : 16794310716 Question Type : MCQ Option Shuffling : Yes Display Question Number : Yes
Single Line Question Option : No Option Orientation : Vertical

Correct : 1 Wrong : 0.25

The "ISOPLETH CONCEPT" was conceived by whom?

Options :

✖ Ritter

✔ Humboldt

✖ Ratzel

✖ Sample

Question Number : 109 Question Id : 16794310716 Question Type : MCQ Option Shuffling : Yes Display Question Number : Yes
Single Line Question Option : No Option Orientation : Vertical

Correct : 1 Wrong : 0.25

"आइसोप्लेथ अवधारणा (आइसोप्लेथ कॉन्सेप्ट)" की कल्पना किसने की थी?

Options :

✖ रिटर

✔ हम्बोल्ट

✖ रेटज़ेल

✖ सेम्पल

Question Number : 110 Question Id : 16794310717 Question Type : MCQ Option Shuffling : Yes Display Question Number : Yes
Single Line Question Option : No Option Orientation : Vertical

Correct : 1 Wrong : 0.25

In the ancient times, the Indians called "South America" as:

Options :

✔ Kusa

✖ Jambu

✖ Pranka

✖ Puskara

Question Number : 110 Question Id : 16794310717 Question Type : MCQ Option Shuffling : Yes Display Question Number : Yes
Single Line Question Option : No Option Orientation : Vertical

Correct : 1 Wrong : 0.25

प्राचीन काल में, भारतीय "दक्षिण अमेरिका" को क्या कहते थे?

Options :

✔ कुसा

✖ जंबू

✖ प्रंक

✖ पुष्कर

Question Number : 111 Question Id : 16794310718 Question Type : MCQ Option Shuffling : Yes Display Question Number : Yes
Single Line Question Option : No Option Orientation : Vertical

Correct : 1 Wrong : 0.25

Which of the following was written by Ibn- Battuta?

Options :

✖ The Book of Golden Meadows

✖ Muqaddimah

✓ University of Al-Quaraouiyine

✖ Tabula Rogeriana

Question Number : 111 Question Id : 16794310718 Question Type : MCQ Option Shuffling : Yes Display Question Number : Yes
Single Line Question Option : No Option Orientation : Vertical

Correct : 1 Wrong : 0.25

निम्नलिखित में से कौनसी पुस्तक इब्न-बतूता द्वारा लिखी गई थी?

Options :

✖ दी बुक ऑफ गोल्डन मीडोज

✖ मुकद्दिमाह

✓ यूनिवर्सिटी ऑफ अल-कुराइन

✖ ताबुला रोगेरीआ

Question Number : 112 Question Id : 16794310719 Question Type : MCQ Option Shuffling : Yes Display Question Number : Yes
Single Line Question Option : No Option Orientation : Vertical

Correct : 1 Wrong : 0.25

The quantitative revolution in geography deals with which objectives from the following:

- To make geography more scientific
- To make the study more precise and accurate
- Develop the new models and theories
- To eradicate the thought of determinism

Options :

✖ b, c, & d

✓ a, b, & c

✗ a, c, & d

✗ a, b, & d

Question Number : 112 Question Id : 16794310719 Question Type : MCQ Option Shuffling : Yes Display Question Number : Yes
Single Line Question Option : No Option Orientation : Vertical

Correct : 1 Wrong : 0.25

भूगोल में परिमाणात्मक क्रांति निम्नलिखित उद्देश्यों में से किससे संबंधित है?

- a. भूगोल को और अधिक वैज्ञानिक बनाना
- b. अध्ययन को और अधिक स्पष्ट और विशुद्ध बनाना
- c. नए प्रतिमानों और सिद्धांतों का विकास करना
- d. नियतिवाद के विचार का उन्मूलन करना

Options :

✗ b, c, और d

✓ a, b, और c

✗ a, c, और d

✗ a, b, और d

Question Number : 113 Question Id : 16794310720 Question Type : MCQ Option Shuffling : Yes Display Question Number : Yes
Single Line Question Option : No Option Orientation : Vertical

Correct : 1 Wrong : 0.25

Match the following.

Author	Books
--------	-------

Options :

✗ G.H. Dury ——— The Geography of Poverty

✗ Morrill and Wohlenberg ——— Exploration in India

✗ D. Gregory ——— The Face of Earth

✓ David Sopher ——— Geography of Religions

Question Number : 113 Question Id : 16794310720 Question Type : MCQ Option Shuffling : Yes Display Question Number : Yes
Single Line Question Option : No Option Orientation : Vertical

Correct : 1 Wrong : 0.25

सही मिलान चुनें:

लेखक पुस्तक

Options :

- ✗ जी.एच. डूरी — जिओग्राफी ऑफ पाँवटी
- ✗ मॉरिल और वोहलेनबर्ग — एक्सप्लोरेशन इन इंडिया
- ✗ डी. ग्रेगरी — दि फेस ऑफ अर्थ
- ✓ डेविड सोफर — जिओग्राफी ऑफ रिलीजंस

Question Number : 114 Question Id : 16794310721 Question Type : MCQ Option Shuffling : Yes Display Question Number : Yes
Single Line Question Option : No Option Orientation : Vertical

Correct : 1 Wrong : 0.25

Identify the incorrect fact(s) from the following:

- a. Pangaea was surrounded by a single vast ocean called panthalasa.
- b. The core of the Earth is called barysphere.
- c. Rejuvenation is an example of the interruption to the cycle of erosion.
- d. The name of the largest volcanic crater is Toba and it is located in Java.

Options :

- ✓ Only d
- ✗ a and d
- ✗ a and c
- ✗ Only c

Question Number : 114 Question Id : 16794310721 Question Type : MCQ Option Shuffling : Yes Display Question Number : Yes
Single Line Question Option : No Option Orientation : Vertical

Correct : 1 Wrong : 0.25

असत्य तथ्य की पहचान करें

- a. पैंजिआ पंथालसा नामक एक विशाल महासागर से घिरा हुआ था
- b. पृथ्वी के मध्य भाग को बैरीस्फीयर कहा जाता है
- c. कायाकल्प क्षरण के चक्र में बाधा का एक उदाहरण है
- d. सबसे बड़े ज्वालामुखीय ज्वालामुख (क्रैटर) का नाम टोबा है और जावा में स्थित है।

Options :

✓ केवल d

✗ a और d

✗ a और c

✗ केवल c

Question Number : 115 Question Id : 16794310722 Question Type : MCQ Option Shuffling : Yes Display Question Number : Yes
Single Line Question Option : No Option Orientation : Vertical

Correct : 1 Wrong : 0.25

If the earth's direction of rotation is reversed, what would be the IST when it is noon at the International Date Line?

Options :

✗ 18:30 hrs.

✗ 16:00 hrs.

✓ 6:30 hrs.

✗ 4:30 hrs.

Question Number : 115 Question Id : 16794310722 Question Type : MCQ Option Shuffling : Yes Display Question Number : Yes
Single Line Question Option : No Option Orientation : Vertical

Correct : 1 Wrong : 0.25

अगर पृथ्वी के घूर्णन की दिशा को उलट दिया जाए, तो अंतरराष्ट्रीय तिथि रेखा पर जब दोपहर होगी तो उस समय अंतरराष्ट्रीय मानक समय क्या होगा?

Options :

✗ 18:30 सायंकाल

✗ 16:00 सायंकाल

✓ 6:30 प्रातःकाल

✗ 4:30 प्रातःकाल

Question Number : 116 Question Id : 16794310723 Question Type : MCQ Option Shuffling : Yes Display Question Number : Yes
Single Line Question Option : No Option Orientation : Vertical

Correct : 1 Wrong : 0.25

What is Euler's geometrical theorem?

Options :

- ✓ The movement of plates in the form of simple rotation along a pole of rotation
- ✗ Conversion of two plates
- ✗ Collision of two plates
- ✗ Movement of tectonic plates

Question Number : 116 Question Id : 16794310723 Question Type : MCQ Option Shuffling : Yes Display Question Number : Yes
Single Line Question Option : No Option Orientation : Vertical

Correct : 1 Wrong : 0.25

यूलर का ज्यामितीय प्रमेय क्या है?

Options :

- ✓ ध्रुव के घूर्णन के साथ साधारण घूर्णन के रूप में प्लेटों की हलचल
- ✗ दो प्लेटों का रूपांतरण
- ✗ दो प्लेटों का टकराव
- ✗ टेक्टोनिक प्लेटों का गति

Question Number : 117 Question Id : 16794310724 Question Type : MCQ Option Shuffling : Yes Display Question Number : Yes
Single Line Question Option : No Option Orientation : Vertical

Correct : 1 Wrong : 0.25

One degree of longitude represents:

Options :

- ✗ 4 kms along equator
- ✗ 4 kms along the great circle
- ✗ 12 kms along the equator
- ✓ 111 kms along the equator

Question Number : 117 Question Id : 16794310724 Question Type : MCQ Option Shuffling : Yes Display Question Number : Yes
Single Line Question Option : No Option Orientation : Vertical

Correct : 1 Wrong : 0.25

देशांतर का एक अंश (डिग्री) क्या प्रदर्शित करता है?

Options :

- ✗ भूमध्य रेखा के साथ 4 km
- ✗ महावृत्त (ग्रेट सर्किल) के साथ 4 km
- ✗ भूमध्य रेखा के साथ 12 km
- ✓ भूमध्य रेखा के साथ 111 km

Question Number : 118 Question Id : 16794310725 Question Type : MCQ Option Shuffling : Yes Display Question Number : Yes
Single Line Question Option : No Option Orientation : Vertical

Correct : 1 Wrong : 0.25

Who postulated the horizontal displacement of the continents?

Options :

- ✓ F.B. Taylor
- ✗ Lothian Green
- ✗ Gregory
- ✗ Wegener

Question Number : 118 Question Id : 16794310725 Question Type : MCQ Option Shuffling : Yes Display Question Number : Yes
Single Line Question Option : No Option Orientation : Vertical

Correct : 1 Wrong : 0.25

महाद्वीपों के क्षैतिज विस्थापन की कल्पना किसने की थी?

Options :

- ✓ एफ. बी. टेलर
- ✗ लोथियन ग्रीन
- ✗ ग्रेगरी
- ✗ वेगनर

Question Number : 119 Question Id : 16794310726 Question Type : MCQ Option Shuffling : Yes Display Question Number : Yes
Single Line Question Option : No Option Orientation : Vertical

Correct : 1 Wrong : 0.25

Which of the following is true about igneous rocks?

Options :

- ✖ They are porous for water.
- ✖ They are made of less percentage of fossils.
- ✔ They are both crystalline and non-crystalline.
- ✖ There is no silica in these rocks.

Question Number : 119 Question Id : 16794310726 Question Type : MCQ Option Shuffling : Yes Display Question Number : Yes
Single Line Question Option : No Option Orientation : Vertical

Correct : 1 Wrong : 0.25

आग्नेय चट्टानों के बारे में निम्नलिखित में से कौन सा कथन सत्य है?

Options :

- ✖ वे जल के लिए छिद्रयुक्त होती हैं।
- ✖ उनके निर्माण में जीवाश्मों का प्रतिशत कम होता है।
- ✔ वे क्रिस्टलीय और गैर-क्रिस्टलीय दोनों होती हैं।
- ✖ इन चट्टानों में सिलिका नहीं होती है।

Question Number : 120 Question Id : 16794310727 Question Type : MCQ Option Shuffling : Yes Display Question Number : Yes
Single Line Question Option : No Option Orientation : Vertical

Correct : 1 Wrong : 0.25

Read the below assertion and reason statements given:

Assertion (A): Days and nights all over the globe, except at the equator and at the poles, are of varying lengths at different times of the year.

Reason (R): The Earth's axis is oblique and it points in the same direction throughout the year.

Select the option that holds true.

Options :

- ✖ Both A and R are true, and R is the correct explanation of A.
- ✔ Both A and R are true, and R is not the correct explanation of A.
- ✖ A is true, R is false.
- ✖ A is false, R is true.

Question Number : 120 Question Id : 16794310727 Question Type : MCQ Option Shuffling : Yes Display Question Number : Yes
Single Line Question Option : No Option Orientation : Vertical

Correct : 1 Wrong : 0.25

नीचे दिए गए अभिकथन और कारण को पढ़ें।

अभिकथन (A): भूमध्य रेखा और ध्रुवों के अतिरिक्त सम्पूर्ण विश्व में दिन और रात वर्ष के विभिन्न समयों में विभिन्न अवधि (लंबाई) के होते हैं।

कारण (R): पृथ्वी की धुरी तिर्यक है और यह वर्ष भर एक ही दिशा में रहती है।

सही विकल्प का चयन करें।

Options :

✗ A और R दोनों सत्य हैं, और R, A की सही व्याख्या है।

✓ A और R दोनों सत्य हैं, और R, A की सही व्याख्या नहीं है।

✗ A सत्य है, R असत्य है।

✗ A असत्य है, R सत्य है।

Group Number :	7
Group Id :	167943318
Group Maximum Duration :	0
Group Minimum Duration :	0
Revisit allowed for view? :	No
Revisit allowed for edit? :	No
Break time:	0
Group Marks:	20

Subject Related

Section Id :	167943377
Section Number :	1
Section type :	Online
Mandatory or Optional:	Mandatory
Number of Questions:	20
Number of Questions to be attempted:	20
Section Marks:	20
Display Number Panel:	Yes
Group All Questions:	No

Subject Related

Sub-Section Number:	1
Sub-Section Id:	167943670
Question Shuffling Allowed :	Yes

Question Number : 121 Question Id : 16794310728 Question Type : MCQ Option Shuffling : Yes Display Question Number : Yes
Single Line Question Option : No Option Orientation : Vertical
Correct : 1 Wrong : 0.25

Read the below assertion and reason statements given:

Assertion (A): The Himalaya mountains are in isostatic equilibrium.

Reason (R): The rivers flowing in the Himalayas have been rejuvenated in the past.

Select the option that holds true.

Options :

- ✗ Both A and R are true, and R is the correct explanation of A.
- ✗ Both A and R are true, and R is not the correct explanation of A.
- ✗ A is true, R is false.
- ✓ A is false, R is true.

Question Number : 121 Question Id : 16794310728 Question Type : MCQ Option Shuffling : Yes Display Question Number : Yes
Single Line Question Option : No Option Orientation : Vertical
Correct : 1 Wrong : 0.25

नीचे दिए गए अभिकथन और कारण को पढ़ें।

अभिकथन (A): हिमालय के पर्वत समस्थितिक आइसोस्टैटिक संतुलन में हैं।

कारण (R): हिमालय के पर्वतों में बहती नदियों का अतीत में कायाकल्प हुआ था।

सही विकल्प का चयन करें।

Options :

- ✗ A और R दोनों सत्य हैं, और R, A की सही व्याख्या है।
- ✗ A और R दोनों सत्य हैं, और R, A की सही व्याख्या नहीं है।
- ✗ A सत्य है, R असत्य है।
- ✓ A असत्य है, R सत्य है।

Question Number : 122 Question Id : 16794310729 Question Type : MCQ Option Shuffling : Yes Display Question Number : Yes
Single Line Question Option : No Option Orientation : Vertical
Correct : 1 Wrong : 0.25

Identify the correct descending order of percentage of elements in Earth's crust.

Options :

- ✘ Aluminium, iron, silicon, oxygen
- ✘ Oxygen, aluminium, iron, copper
- ✘ Iron, aluminium, silicon, zinc
- ✔ Oxygen, silicon, aluminium, iron.

Question Number : 122 Question Id : 16794310729 Question Type : MCQ Option Shuffling : Yes Display Question Number : Yes
Single Line Question Option : No Option Orientation : Vertical

Correct : 1 Wrong : 0.25

पृथ्वी की बाह्य सतह में तत्वों के प्रतिशत के सही अवरोही क्रम की पहचान करें

Options :

- ✘ एल्युमिनियम, आयरन, सिलिकॉन, ऑक्सीजन
- ✘ ऑक्सीजन, एल्युमिनियम, आयरन, कॉपर
- ✘ आयरन, एल्युमिनियम, सिलिकॉन, जिंक
- ✔ ऑक्सीजन, सिलिकॉन, एल्युमिनियम, आयरन

Question Number : 123 Question Id : 16794310730 Question Type : MCQ Option Shuffling : Yes Display Question Number : Yes
Single Line Question Option : No Option Orientation : Vertical

Correct : 1 Wrong : 0.25

According to Wegener, one of the forces responsible for continental drift is:

Options :

- ✔ Tidal forces
- ✘ Tensional push
- ✘ Convection currents
- ✘ Vertical force

Question Number : 123 Question Id : 16794310730 Question Type : MCQ Option Shuffling : Yes Display Question Number : Yes
Single Line Question Option : No Option Orientation : Vertical

Correct : 1 Wrong : 0.25

वेगनर के अनुसार महाद्वीपीय बहाव के लिए उत्तरदायी बलों में से एक का नाम क्या है?

Options :

✓ ज्वारीय बल

✗ तनावपूर्ण धक्का

✗ संवहन धाराएँ

✗ ऊर्ध्वाधर बल

Question Number : 124 Question Id : 16794310731 Question Type : MCQ Option Shuffling : Yes Display Question Number : Yes
Single Line Question Option : No Option Orientation : Vertical

Correct : 1 Wrong : 0.25

Arrange the following mountain building theories in the order of their publication year.

1. Plate tectonic theory
2. Sea floor spreading theory
3. Continental drift theory
4. Convection current theory

Options :

✗ 1, 2, 3, 4

✗ 2, 3, 4, 1

✓ 3, 4, 2, 1

✗ 4, 3, 2, 1

Question Number : 124 Question Id : 16794310731 Question Type : MCQ Option Shuffling : Yes Display Question Number : Yes
Single Line Question Option : No Option Orientation : Vertical

Correct : 1 Wrong : 0.25

निम्नलिखित पर्वत निर्माण सिद्धांतों को उनके प्रकाशन वर्ष के क्रम में व्यवस्थित करें।

1. प्लेट विवर्तनिक (टेक्टॉनिक) का सिद्धांत
2. सागर तल विस्तार का सिद्धांत
3. महाद्वीपीय बहाव का सिद्धांत
4. संवहन धारा का सिद्धांत

Options :

✗ 1, 2, 3, 4

✗ 2, 3, 4, 1

✓ 3, 4, 2, 1

✗ 4, 3, 2, 1

Question Number : 125 Question Id : 16794310732 Question Type : MCQ Option Shuffling : Yes Display Question Number : Yes
Single Line Question Option : No Option Orientation : Vertical

Correct : 1 Wrong : 0.25

Nazca plate location is in:

Options :

✗ West of North America

✗ East of North America

✓ West of South America

✗ East of South America

Question Number : 125 Question Id : 16794310732 Question Type : MCQ Option Shuffling : Yes Display Question Number : Yes
Single Line Question Option : No Option Orientation : Vertical

Correct : 1 Wrong : 0.25

नाज़का प्लेट का स्थान कहाँ है?

Options :

✗ उत्तरी अमेरिका के पश्चिम में

✗ उत्तरी अमेरिका के पूर्व में

✓ दक्षिण अमेरिका के पश्चिम में

✗ दक्षिण अमेरिका के पूर्व में

Question Number : 126 Question Id : 16794310733 Question Type : MCQ Option Shuffling : Yes Display Question Number : Yes
Single Line Question Option : No Option Orientation : Vertical

Correct : 1 Wrong : 0.25

“Cell model” of tropical circulation between tropic of cancer and capricorn is known as:

Options :

✗ Farrel cell

✓ Hadely cell

✘ Atmospheric cell

✘ Tropical cell

Question Number : 126 Question Id : 16794310733 Question Type : MCQ Option Shuffling : Yes Display Question Number : Yes
Single Line Question Option : No Option Orientation : Vertical

Correct : 1 Wrong : 0.25

कर्क रेखा और मकर के बीच उष्णकटिबंधीय परिसंचरण का "सेल मॉडल" _____ के रूप में जाना जाता है।

Options :

✘ फेरेल सेल

✔ हेडली सेल

✘ वायुमंडलीय सेल

✘ उष्णकटिबंधीय सेल

Question Number : 127 Question Id : 16794310734 Question Type : MCQ Option Shuffling : Yes Display Question Number : Yes
Single Line Question Option : No Option Orientation : Vertical

Correct : 1 Wrong : 0.25

The following are the examples of exogenic forces except one:

Options :

✘ Rivers

✘ Sea waves

✘ Glaciers

✔ Earthquakes

Question Number : 127 Question Id : 16794310734 Question Type : MCQ Option Shuffling : Yes Display Question Number : Yes
Single Line Question Option : No Option Orientation : Vertical

Correct : 1 Wrong : 0.25

निम्नलिखित में से किस एक के अतिरिक्त अन्य सभी बहिर्जनिक बलों के उदाहरण हैं?

Options :

✘ नदियाँ

✘ समुद्र की लहरें

✖ हिम नद

✔ भूकंप

Question Number : 128 Question Id : 16794310735 Question Type : MCQ Option Shuffling : Yes Display Question Number : Yes
Single Line Question Option : No Option Orientation : Vertical

Correct : 1 Wrong : 0.25

The type of plate boundary helps in finding which of the following?

Options :

✖ Epicenter

✖ Weak earth crust

✖ Earthquake probability

✔ All of the given options

Question Number : 128 Question Id : 16794310735 Question Type : MCQ Option Shuffling : Yes Display Question Number : Yes
Single Line Question Option : No Option Orientation : Vertical

Correct : 1 Wrong : 0.25

प्लेट सीमा का प्रकार निम्नलिखित में से किसका पता लगाने में सहायता करता है?

Options :

✖ भूकंप का केंद्र

✖ पृथ्वी की कमजोर बाह्य सतह

✖ भूकंप की संभाव्यता

✔ दिये गए सभी विकल्प

Question Number : 129 Question Id : 16794310736 Question Type : MCQ Option Shuffling : Yes Display Question Number : Yes
Single Line Question Option : No Option Orientation : Vertical

Correct : 1 Wrong : 0.25

हाल ही में खोजी गई 57वीं विवर्तनिक सूक्ष्म प्लेट (टेक्टॉनिक माइक्रोप्लेट) का क्या नाम है?

Options :

✖ नाज़का सूक्ष्म प्लेट (नाज़का माइक्रोप्लेट)

- ✓ माल्पेलो सूक्ष्म प्लेट (माल्पेलो माइक्रोप्लेट)
- ✗ कोकोस सूक्ष्म प्लेट (कोकोस माइक्रोप्लेट)
- ✗ कैरिबियन सूक्ष्म प्लेट (कैरिबियन माइक्रोप्लेट)

Question Number : 129 Question Id : 16794310736 Question Type : MCQ Option Shuffling : Yes Display Question Number : Yes
Single Line Question Option : No Option Orientation : Vertical
Correct : 1 Wrong : 0.25

The name of the 57th tectonic microplate recently discovered is:

Options :

- ✗ Nazca microplate
- ✓ Malpelo microplate
- ✗ Cocos microplate
- ✗ Caribbean microplate

Question Number : 130 Question Id : 16794310737 Question Type : MCQ Option Shuffling : Yes Display Question Number : Yes
Single Line Question Option : No Option Orientation : Vertical
Correct : 1 Wrong : 0.25

The glacial moraines of South America, Africa, Australia and India were all once connected to:

Options :

- ✗ North Pole
- ✗ North America
- ✓ Antarctica
- ✗ South Pole

Question Number : 130 Question Id : 16794310737 Question Type : MCQ Option Shuffling : Yes Display Question Number : Yes
Single Line Question Option : No Option Orientation : Vertical
Correct : 1 Wrong : 0.25

दक्षिण अमेरिका, अफ्रीका, ऑस्ट्रेलिया और भारत के सभी हिमनदीय हिमोढ़ कभी किससे जुड़े हुए थे?

Options :

- ✗ उत्तरी ध्रुव से

- ✖ उत्तरी अमेरिका से
- ✔ अंटार्कटिका से
- ✖ दक्षिणी ध्रुव से

Question Number : 131 Question Id : 16794310738 Question Type : MCQ Option Shuffling : Yes Display Question Number : Yes
Single Line Question Option : No Option Orientation : Vertical
Correct : 1 Wrong : 0.25

Match list I with list II and select the answers from the code given below.

List I (terms)	List II (definitions)
A. Canyon	1. Permanently frozen sub soil region
B. Permafrost	2. A chain of mountain ranges which are roughly parallel or run in one general direction
C. Taiga	3. A gorge of a very large size with wall like sides. It is an I shaped valley
D. Cordillera	4. A wide belt of coniferous forests stretches from the Atlantic to the Pacific across Canada.

- Options :
- ✖ A-3, B-4, C-1, D-2
 - ✖ A-2, B-1, C-4, D-3
 - ✖ A-4, B-1, C-2, D-3
 - ✔ A-3, B-1, C-4, D-2

Question Number : 131 Question Id : 16794310738 Question Type : MCQ Option Shuffling : Yes Display Question Number : Yes
Single Line Question Option : No Option Orientation : Vertical
Correct : 1 Wrong : 0.25

सूची I का सूची II से मिलान करें और नीचे दिये गए कोड से उत्तरों का चयन करें।

सूची I (शब्द)	सूची II (परिभाषाएँ)
A. कैन्यन	1. स्थायी रूप से जमे हुए उप मृदा क्षेत्र।
B. परमाफ्रॉस्ट	2. पर्वतीय विस्तारों (रेंजेज़) की एक श्रृंखला जो लगभग समानांतर होती हैं या एक सामान्य दिशा में फैली होती है।
C. टाइगा	3. एक अत्यंत विशाल आकार की सँकरी नदी घाटी जिसकी फलक दीवारनुमा होती हैं। यह एक आई (I) आकार की घाटी है।
D. कॉर्डिलेरा	4. अटलांटिक से कनाडा के पार प्रशांत तक फैली शंकुधारी वनों की एक विशाल पट्टी।

- Options :
- ✗ A-3, B-4, C-1, D-2
 - ✗ A-2, B-1, C-4, D-3
 - ✗ A-4, B-1, C-2, D-3
 - ✓ A-3, B-1, C-4, D-2

Question Number : 132 Question Id : 16794310739 Question Type : MCQ Option Shuffling : Yes Display Question Number : Yes
Single Line Question Option : No Option Orientation : Vertical

Correct : 1 Wrong : 0.25

Rift valleys are caused by:

- Options :
- ✓ Endogenetic forces
 - ✗ Earthquakes
 - ✗ Exogenetic forces
 - ✗ Volcanoes

Question Number : 132 Question Id : 16794310739 Question Type : MCQ Option Shuffling : Yes Display Question Number : Yes
Single Line Question Option : No Option Orientation : Vertical

Correct : 1 Wrong : 0.25

दरारनुमा घाटियाँ किस के कारण बनती हैं?

Options :

- ✓ अंतर्जनित बल
- ✗ भूकंप
- ✗ वाह्यजनित बल
- ✗ ज्वालामुखी

Question Number : 133 Question Id : 16794310740 Question Type : MCQ Option Shuffling : Yes Display Question Number : Yes
Single Line Question Option : No Option Orientation : Vertical

Correct : 1 Wrong : 0.25

Paired river terraces are found in:

Options :

- ✓ Flood plains
- ✗ Arid landforms
- ✗ Oceanic landforms
- ✗ All of the given options

Question Number : 133 Question Id : 16794310740 Question Type : MCQ Option Shuffling : Yes Display Question Number : Yes
Single Line Question Option : No Option Orientation : Vertical

Correct : 1 Wrong : 0.25

युग्मित नदी वेदिकाएँ (रिवर टेरेसेज़) कहाँ पाई जाती हैं?

Options :

- ✓ बाढ़ के मैदानों में
- ✗ शुष्क भू-आकृतियों में
- ✗ सामुद्रिक भू-आकृतियों में
- ✗ दिये गए सभी विकल्पों में

Question Number : 134 Question Id : 16794310741 Question Type : MCQ Option Shuffling : Yes Display Question Number : Yes
Single Line Question Option : No Option Orientation : Vertical

Correct : 1 Wrong : 0.25

Nature and rate of growth of delta depends upon which of the following factors.

1. Velocity of stream flow
2. Slope of land
3. Speed of wind
4. Length of river

Options :

✗ 1, 3

✗ 2, 4

✓ 1, 2

✗ 3, 4

Question Number : 134 Question Id : 16794310741 Question Type : MCQ Option Shuffling : Yes Display Question Number : Yes
Single Line Question Option : No Option Orientation : Vertical

Correct : 1 Wrong : 0.25

डेल्टा की प्रकृति और वृद्धि दर निम्नलिखित में से किस घटक पर निर्भर करती है?

1. नदी के बहाव का वेग
2. भूमि की ढलान
3. वायु की गति
4. नदी की लंबाई

Options :

✗ 1, 3

✗ 2, 4

✓ 1, 2

✗ 3, 4

Question Number : 135 Question Id : 16794310742 Question Type : MCQ Option Shuffling : Yes Display Question Number : Yes
Single Line Question Option : No Option Orientation : Vertical

Correct : 1 Wrong : 0.25

“Son river” flowing across khainjua ridges in southern part of Rewa is fine example of:

Options :

✗ Antecedent river

- ✖ Anteconsequent river
- ✔ Superimposed river
- ✖ None of the given options

Question Number : 135 Question Id : 16794310742 Question Type : MCQ Option Shuffling : Yes Display Question Number : Yes
Single Line Question Option : No Option Orientation : Vertical

Correct : 1 Wrong : 0.25

रीवा के दक्षिणी भाग में खैनजुआ पर्वत-श्रेणियों में से "सोन नदी" का बहना _____ का एक उत्तम उदाहरण है।

Options :

- ✖ पूर्ववर्ती नद
- ✖ पूर्वानुवर्ती नदी
- ✔ अध्यारोपित नदी
- ✖ उपरोक्त में से कोई नहीं

Question Number : 136 Question Id : 16794310743 Question Type : MCQ Option Shuffling : Yes Display Question Number : Yes
Single Line Question Option : No Option Orientation : Vertical

Correct : 1 Wrong : 0.25

Pepino hills location can be described as:

Options :

- ✖ Features formed due to the depositional activity on beaches.
- ✔ Small hills formed in karst region.
- ✖ Small residual hills found on floor of sea.
- ✖ All of the given options.

Question Number : 136 Question Id : 16794310743 Question Type : MCQ Option Shuffling : Yes Display Question Number : Yes
Single Line Question Option : No Option Orientation : Vertical

Correct : 1 Wrong : 0.25

पेपिनो पहाड़ियों के स्थान को किस प्रकार वर्णित किया जा सकता है?

Options :

- ✖ समुद्री तटों पर जमाव की गतिविधि के कारण निर्मित आकृतियाँ।

✓ कार्स्ट क्षेत्रों में निर्मित छोटी पहाड़ियाँ।

✗ समुद्री तल पर पाई जाने वाली छोटी अवशिष्ट पहाड़ियाँ।

✗ दिये गए सभी विकल्प।

Question Number : 137 Question Id : 16794310744 Question Type : MCQ Option Shuffling : Yes Display Question Number : Yes
Single Line Question Option : No Option Orientation : Vertical

Correct : 1 Wrong : 0.25

The name "upturned boats" is given to which of the following?

Options :

✗ Kame

✓ Drumlins

✗ Albs

✗ Eskers

Question Number : 137 Question Id : 16794310744 Question Type : MCQ Option Shuffling : Yes Display Question Number : Yes
Single Line Question Option : No Option Orientation : Vertical

Correct : 1 Wrong : 0.25

"उल्टी नौकाएँ" (अपटर्न्ड बोट्स) नाम निम्नलिखित में से किसे दिया गया है?

Options :

✗ रेतीले कंकड़ों का ढेर (केम)

✓ टीले (ड्रमलिन्स)

✗ श्वेत उत्तरीय (ऐल्ब्स)

✗ हिमनद मृद कटक (एस्कर्स)

Question Number : 138 Question Id : 16794310745 Question Type : MCQ Option Shuffling : Yes Display Question Number : Yes
Single Line Question Option : No Option Orientation : Vertical

Correct : 1 Wrong : 0.25

The highest percentage of salinity is in which region?

Options :

✓ Tropical region

- ✖ Temperate region
- ✖ Sub Polar
- ✖ Both Tropical region and Temperate region

Question Number : 138 Question Id : 16794310745 Question Type : MCQ Option Shuffling : Yes Display Question Number : Yes
Single Line Question Option : No Option Orientation : Vertical

Correct : 1 Wrong : 0.25

लवणता का उच्चतम प्रतिशत किस क्षेत्र में है?

Options :

- ✔ उष्णकटिबंधीय क्षेत्र
- ✖ शीतोष्ण क्षेत्र
- ✖ उप ध्रुवीय
- ✖ उष्णकटिबंधीय क्षेत्र और शीतोष्ण क्षेत्र दोनों में

Question Number : 139 Question Id : 16794310746 Question Type : MCQ Option Shuffling : Yes Display Question Number : Yes
Single Line Question Option : No Option Orientation : Vertical

Correct : 1 Wrong : 0.25

Any region that has undergone glacial erosion, but now there are no glaciers present in that place, may not have any one of the followings.

Options :

- ✖ U shaped valley
- ✔ Crevasses
- ✖ Eskers
- ✖ Corries

Question Number : 139 Question Id : 16794310746 Question Type : MCQ Option Shuffling : Yes Display Question Number : Yes
Single Line Question Option : No Option Orientation : Vertical

Correct : 1 Wrong : 0.25

कोई भी क्षेत्र जिसमें हिमनद अपक्षरण हुआ है, किंतु अब वहाँ उस स्थान पर कोई हिमनद उपस्थित नहीं हैं, वहाँ निम्नलिखित में से क्या नहीं हो सकता है?

Options :

- ✖ U आकार की घाटी

✓ दरारें

✗ हिमनद मृद कटक (एस्कर्स)

✗ पर्वत-गुहाएँ (कोरीज़)

Question Number : 140 Question Id : 16794310747 Question Type : MCQ Option Shuffling : Yes Display Question Number : Yes
Single Line Question Option : No Option Orientation : Vertical

Correct : 1 Wrong : 0.25

The deepest oceanic depths are found in:

Options :

✗ Oceanic valleys

✗ Oceanic ridges

✓ Oceanic trenches

✗ All of the given options

Question Number : 140 Question Id : 16794310747 Question Type : MCQ Option Shuffling : Yes Display Question Number : Yes
Single Line Question Option : No Option Orientation : Vertical

Correct : 1 Wrong : 0.25

सर्वाधिक समुद्री गहराई कहाँ पाई जाती है?

Options :

✗ महासागरीय घाटियों में

✗ महासागरीय किनारों पर

✓ महासागरीय खाइयों में

✗ दिये गए सभी विकल्पों में

Subject Related

Group Number :

8

Group Id :

167943319

Group Maximum Duration :

0

Group Minimum Duration :

0

Revisit allowed for view? :

No

Revisit allowed for edit? : No
Break time: 0
Group Marks: 20

	Subject Related
Section Id :	167943378
Section Number :	1
Section type :	Online
Mandatory or Optional:	Mandatory
Number of Questions:	20
Number of Questions to be attempted:	20
Section Marks:	20
Display Number Panel:	Yes
Group All Questions:	No

Sub-Section Number: 1
Sub-Section Id: 167943671
Question Shuffling Allowed : Yes

Question Number : 141 Question Id : 16794310748 Question Type : MCQ Option Shuffling : Yes Display Question Number : Yes
Single Line Question Option : No Option Orientation : Vertical

Correct : 1 Wrong : 0.25

Many times farmers are advised to mix lime in soil for:

Options :

- ✗ Lime controls the moisture in soil
- ✗ Acidic levels of soil are increased
- ✓ Basic levels of soil are maintained
- ✗ Lime improves plant growth efficiency

Question Number : 141 Question Id : 16794310748 Question Type : MCQ Option Shuffling : Yes Display Question Number : Yes
Single Line Question Option : No Option Orientation : Vertical

Correct : 1 Wrong : 0.25

कई बार किसानों को मिट्टी में चूना मिलाने की सलाह क्यों दी जाती है?

Options :

- ✗ चूना मिट्टी में नमी को नियंत्रित करता ह।
- ✗ मिट्टी के अम्लीय स्तरों में वृद्धि होती है।
- ✓ मिट्टी के क्षारीय स्तर बरकरार रहते हैं।

✖ चूना पौधे की वृद्धि क्षमता में सुधार करता है।

Question Number : 142 Question Id : 16794310749 Question Type : MCQ Option Shuffling : Yes Display Question Number : Yes
Single Line Question Option : No Option Orientation : Vertical

Correct : 1 Wrong : 0.25

Read the assertion and reason statements below.

Assertion (A): Magma pushes the oceanic plates apart and forms new seafloor.

Reason (R): New sea bed/floor can be created by unroofing mantle directly.

Select the option that holds true.

Options :

✖ Both A and R are true, and R is the correct explanation of A.

✔ Both A and R are true, and R is not the correct explanation of A.

✖ A is true, R is false.

✖ A is false, R is true.

Question Number : 142 Question Id : 16794310749 Question Type : MCQ Option Shuffling : Yes Display Question Number : Yes
Single Line Question Option : No Option Orientation : Vertical

Correct : 1 Wrong : 0.25

नीचे दिए गए अभिकथन और कारण को पढ़ें।

अभिकथन (A) मैग्मा महासागरीय प्लेटों को अलग करता है और नए समुद्री तल बनाता है।

कारण (R) नया समुद्री तल सीधे प्रावरण को बिना ढके निर्मित किया जा सकता है।

सही विकल्प का चयन करें।

Options :

✖ A और R दोनों सत्य हैं, और R, A की सही व्याख्या है।

✔ A और R दोनों सत्य हैं, और R, A की सही व्याख्या नहीं है।

✖ A सत्य है, R असत्य है।

✖ A असत्य है, R सत्य है।

Question Number : 143 Question Id : 16794310750 Question Type : MCQ Option Shuffling : Yes Display Question Number : Yes
Single Line Question Option : No Option Orientation : Vertical
Correct : 1 Wrong : 0.25

An example of cave deposit is:

Options :

- ☐ Lapies
- ☒ Stalagmite
- ☐ Cavern
- ☐ Sinkhole

Question Number : 143 Question Id : 16794310750 Question Type : MCQ Option Shuffling : Yes Display Question Number : Yes
Single Line Question Option : No Option Orientation : Vertical
Correct : 1 Wrong : 0.25

_____ गुफा में जमाव का एक उदाहरण है।

Options :

- ☐ लाजवर्त / आरोही निक्षेप
- ☒ निलंबी निक्षेप
- ☐ कंदरा
- ☐ रन्ध्र

Question Number : 144 Question Id : 16794310751 Question Type : MCQ Option Shuffling : Yes Display Question Number : Yes
Single Line Question Option : No Option Orientation : Vertical
Correct : 1 Wrong : 0.25

Where is Merapi volcano located?

Options :

- ☐ Japan
- ☐ China
- ☒ Indonesia
- ☐ Philippines

Question Number : 144 Question Id : 16794310751 Question Type : MCQ Option Shuffling : Yes Display Question Number : Yes
Single Line Question Option : No Option Orientation : Vertical
Correct : 1 Wrong : 0.25

मेरापी ज्वालामुखी कहाँ स्थित है?

Options :

- ✗ जापान में
- ✗ चीन में
- ✓ इंडोनेशिया में
- ✗ फिलीपींस में

Question Number : 145 Question Id : 16794310752 Question Type : MCQ Option Shuffling : Yes Display Question Number : Yes
Single Line Question Option : No Option Orientation : Vertical

Correct : 1 Wrong : 0.25

Which of the following natural landform is not formed due to volcanism?

Options :

- ✗ A crator
- ✗ A geyser
- ✗ A dyke
- ✓ A varve

Question Number : 145 Question Id : 16794310752 Question Type : MCQ Option Shuffling : Yes Display Question Number : Yes
Single Line Question Option : No Option Orientation : Vertical

Correct : 1 Wrong : 0.25

निम्नलिखित में से कौन सी प्राकृतिक भूमि आकृति ज्वालामुखी के कारण निर्मित नहीं हुई है?

Options :

- ✗ ज्वालामुख (क्रैटर)
- ✗ ऊष्ण जल-स्रोत (गीज़र)
- ✗ तट-बंध (डाइक)
- ✓ अनुवर्षस्तरी (वार्व)

Question Number : 146 Question Id : 16794310753 Question Type : MCQ Option Shuffling : Yes Display Question Number : Yes
Single Line Question Option : No Option Orientation : Vertical

Correct : 1 Wrong : 0.25

Physical weathering is most effective in which type of climate?

Options :

- ☐ Hot and dry
- ☒ Hot and wet
- ☐ Hot season alternate with dry
- ☐ Large temperature changes in house

Question Number : 146 Question Id : 16794310753 Question Type : MCQ Option Shuffling : Yes Display Question Number : Yes
Single Line Question Option : No Option Orientation : Vertical

Correct : 1 Wrong : 0.25

किस प्रकार की जलवायु में प्राकृतिक अपरदन (फिज़िकल वेदरिंग) सर्वाधिक प्रभावी होती है?

Options :

- ☐ गर्म और शुष्क
- ☒ गर्म और आर्द्र
- ☐ एकांतर क्रम में गर्म और शुष्क मौसम
- ☐ घर में तापमान में व्यापक परिवर्तन

Question Number : 147 Question Id : 16794310754 Question Type : MCQ Option Shuffling : Yes Display Question Number : Yes
Single Line Question Option : No Option Orientation : Vertical

Correct : 1 Wrong : 0.25

Red Sea is an example of:

Options :

- ☒ Rift valley
- ☐ Fold valley
- ☐ U shaped valley
- ☐ V shaped valley

Question Number : 147 Question Id : 16794310754 Question Type : MCQ Option Shuffling : Yes Display Question Number : Yes
Single Line Question Option : No Option Orientation : Vertical

Correct : 1 Wrong : 0.25

लाल सागर किसका एक उदाहरण है?

Options :

- ✓ विभ्रंश घाटी (रिफ्ट वैली)
- ✗ वलन घाटी (फ़ोल्ड वैली)
- ✗ यू (U) आकार की घाटी
- ✗ वी (V) आकार की घाटी

Question Number : 148 Question Id : 16794310755 Question Type : MCQ Option Shuffling : Yes Display Question Number : Yes
Single Line Question Option : No Option Orientation : Vertical

Correct : 1 Wrong : 0.25

A river deposits sand along the mountain edges in a desert. The deposit is called as:

Options :

- ✗ Desert crush
- ✗ Desert wash
- ✗ Desert monadnocks
- ✓ Bajada

Question Number : 148 Question Id : 16794310755 Question Type : MCQ Option Shuffling : Yes Display Question Number : Yes
Single Line Question Option : No Option Orientation : Vertical

Correct : 1 Wrong : 0.25

एक नदी रेगिस्तान में पहाड़ के किनारों पर रेत जमा करती है। इस जमाव को क्या कहा जाता है?

Options :

- ✗ रेगिस्तानी जमघट (डेजर्ट क्रश)
- ✗ रेगिस्तानी धोवन (डेजर्ट वाश)
- ✗ एकाकी पहाड़ी संरचना (डेजर्ट मोनैडनॉक्स)
- ✓ बाहादा (बजाडा)

Question Number : 149 Question Id : 16794310756 Question Type : MCQ Option Shuffling : Yes Display Question Number : Yes
Single Line Question Option : No Option Orientation : Vertical

Correct : 1 Wrong : 0.25

In ancient times, the stable core of a continent is called as:

Options :

- ☒ Craton
- ☐ Platform
- ☐ Bay bar
- ☐ Varve

Question Number : 149 Question Id : 16794310756 Question Type : MCQ Option Shuffling : Yes Display Question Number : Yes
Single Line Question Option : No Option Orientation : Vertical

Correct : 1 Wrong : 0.25

प्राचीन काल में, एक महाद्वीप के स्थिर अंतर्भाग (कोर) को क्या कहा जाता था?

Options :

- ☒ क्रेटन
- ☐ प्लेटफॉर्म
- ☐ बे बार
- ☐ अनुवर्षस्तरी (वार्व)

Question Number : 150 Question Id : 16794310757 Question Type : MCQ Option Shuffling : Yes Display Question Number : Yes
Single Line Question Option : No Option Orientation : Vertical

Correct : 1 Wrong : 0.25

Name a space rock/ asteroid of 134 diameter gave earth a close shave on 31st May, 2018 at 126,000 miles, that's half the distance from earth to the moon.

Options :

- ☐ 2011WC
- ☒ 2010WC9
- ☐ 2010WC7
- ☐ 2011WC9

Question Number : 150 Question Id : 16794310757 Question Type : MCQ Option Shuffling : Yes Display Question Number : Yes
Single Line Question Option : No Option Orientation : Vertical

Correct : 1 Wrong : 0.25

134 व्यास की अंतरिक्ष चट्टान/क्षुद्र ग्रह का नाम क्या था जो 31 मई, 2018 को 126,000 मील की दूरी से पृथ्वी के पास से गुज़रा, यह दूरी पृथ्वी से चंद्रमा के बीच की आधी दूरी है।

Options :

✖ 2011WC

✔ 2010WC9

✖ 2010WC7

✖ 2011WC9

Question Number : 151 Question Id : 16794310758 Question Type : MCQ Option Shuffling : Yes Display Question Number : Yes
Single Line Question Option : No Option Orientation : Vertical

Correct : 1 Wrong : 0.25

How are air currents different from winds?

Options :

✖ The speed of winds is less than air currents.

✖ The winds are dry and air currents have moisture in them.

✔ The winds blow horizontally and air currents have vertical motion.

✖ The winds are moving on land and the air currents move on seas and oceans.

Question Number : 151 Question Id : 16794310758 Question Type : MCQ Option Shuffling : Yes Display Question Number : Yes
Single Line Question Option : No Option Orientation : Vertical

Correct : 1 Wrong : 0.25

वायु की धाराएँ हवाओं (विंड्स) से कैसे अलग होती हैं?

Options :

✖ हवाओं की गति वायु की धाराओं से कम होती है।

✖ हवाएँ शुष्क होती हैं और वायु की धाराओं में नमी होती है।

✔ हवाएँ क्षैतिज रूप से बहती हैं और वायु की धाराओं की गति ऊर्ध्वाधर होती है।

✖ हवाएँ भूमि पर चलती हैं और वायु की धाराएँ समुद्रों और महासागरों पर चलती हैं।

Question Number : 152 Question Id : 16794310759 Question Type : MCQ Option Shuffling : Yes Display Question Number : Yes
Single Line Question Option : No Option Orientation : Vertical

Correct : 1 Wrong : 0.25

What is annual precipitation?

Options :

- ☐ All forms of rainfall in a year.
- ☒ The total of snowfall, hail, sleet, rain in a year.
- ☐ Amount of precipitation that freezes to ice in a year.
- ☐ The total amount of liquid rain per year excluding snow, hail etc.

Question Number : 152 Question Id : 16794310759 Question Type : MCQ Option Shuffling : Yes Display Question Number : Yes
Single Line Question Option : No Option Orientation : Vertical

Correct : 1 Wrong : 0.25

वार्षिक वर्षण क्या है?

Options :

- ☐ एक वर्ष में वर्षा के सभी स्वरूप।
- ☒ एक वर्ष में कुल हिमपात, ओलावृष्टि, तुषार-वर्षा और वर्षा।
- ☐ एक वर्ष में वर्षण का परिमाण जो जम कर बर्फ बन जाता है।
- ☐ हिम, ओले आदि के बिना प्रति वर्ष तरल वर्षा की कुल मात्रा।

Question Number : 153 Question Id : 16794310760 Question Type : MCQ Option Shuffling : Yes Display Question Number : Yes
Single Line Question Option : No Option Orientation : Vertical

Correct : 1 Wrong : 0.25

Read the following assertion and reason statements carefully.

Assertion (A): In the atmosphere of primitive Earth, there was no oxygen.

Reason (R): Earth's early atmosphere was probably formed from the gases given out by volcanoes.

Select the option that holds true.

Options :

- ☒ Both A and R are true, and R is the correct explanation of A.
- ☐ Both A and R are true, and R is not the correct explanation of A.
- ☐ A is true, R is false.

✖ A is false, R is true.

Question Number : 153 Question Id : 16794310760 Question Type : MCQ Option Shuffling : Yes Display Question Number : Yes
Single Line Question Option : No Option Orientation : Vertical

Correct : 1 Wrong : 0.25

नीचे दिए गए अभिकथन और कारण को पढ़िए।

अभिकथन (A): आदिम पृथ्वी के वातावरण में कोई ऑक्सीजन नहीं थी।

कारण (R): पृथ्वी का प्रारंभिक वातावरण संभवतः ज्वालामुखी से निकली गैसों से बना था।

सही विकल्प को चुने।

Options :

✔ A और R दोनों सत्य हैं, और R, A की सही व्याख्या है।

✖ A और R दोनों सत्य हैं, और R, A की सही व्याख्या नहीं है।

✖ A सत्य है, R असत्य है।

✖ A असत्य है, R सत्य है।

Question Number : 154 Question Id : 16794310761 Question Type : MCQ Option Shuffling : Yes Display Question Number : Yes
Single Line Question Option : No Option Orientation : Vertical

Correct : 1 Wrong : 0.25

Which of the following grasslands are known as the 'big game country'?

Options :

✖ Praries

✖ Downs

✖ Pampas

✔ Savannah

Question Number : 154 Question Id : 16794310761 Question Type : MCQ Option Shuffling : Yes Display Question Number : Yes
Single Line Question Option : No Option Orientation : Vertical

Correct : 1 Wrong : 0.25

निम्नलिखित में से कौन सा प्राकृतिक घास-स्थल (ग्रासलैंड) 'बड़े शिकारों वाला देश' ('बिग गेम कंट्री') कहलाता है?

Options :

✖ प्रेरीज़

✘ डाउन्स

✘ पंपास

✔ सवाना

Question Number : 155 Question Id : 16794310762 Question Type : MCQ Option Shuffling : Yes Display Question Number : Yes
Single Line Question Option : No Option Orientation : Vertical

Correct : 1 Wrong : 0.25

The powerful cold icy winds of polar regions are named:

Options :

✘ Cyclones

✔ Blizzards

✘ Polar trade winds

✘ Cyclonic winds

Question Number : 155 Question Id : 16794310762 Question Type : MCQ Option Shuffling : Yes Display Question Number : Yes
Single Line Question Option : No Option Orientation : Vertical

Correct : 1 Wrong : 0.25

ध्रुवीय क्षेत्रों की शक्तिशाली ठंडी बर्फीली हवाओं को क्या कहा जाता है?

Options :

✘ चक्रवात (साइक्लोनस)

✔ हिम झंझावात (ब्लिज़ार्ड्स)

✘ ध्रुवीय वाणिज्य हवाएँ (पोलर ट्रेड विंड्स)

✘ चक्रवाती हवाएँ (साइक्लोनिक विंड्स)

Question Number : 156 Question Id : 16794310763 Question Type : MCQ Option Shuffling : Yes Display Question Number : Yes
Single Line Question Option : No Option Orientation : Vertical

Correct : 1 Wrong : 0.25

A cloudburst is:

Options :

✘ Condensation of high clouds at one point.

- ✗ A heavy rainfall over a small area for a few minutes.
- ✗ 100 mm persistent regular rainfall.
- ✓ Thunderstorm accompanied by heavy rainfall over small area.

Question Number : 156 Question Id : 16794310763 Question Type : MCQ Option Shuffling : Yes Display Question Number : Yes
Single Line Question Option : No Option Orientation : Vertical

Correct : 1 Wrong : 0.25

बादल फटना क्या होता है?

Options :

- ✗ एक बिंदु पर आकर उच्च बादलों का संघनन।
- ✗ कुछ मिनटों के लिए एक छोटे से क्षेत्र में अकस्मात भारी वर्षा होना।
- ✗ 100 mm अनवरत नियमित वर्षा।
- ✓ छोटे से क्षेत्र में भारी वर्षा के साथ तड़ित झंझावात।

Question Number : 157 Question Id : 16794310764 Question Type : MCQ Option Shuffling : Yes Display Question Number : Yes
Single Line Question Option : No Option Orientation : Vertical

Correct : 1 Wrong : 0.25

Name the instrument to measure atmospheric humidity.

Options :

- ✓ Hygrometer
- ✗ Pantograph
- ✗ Psychrometer
- ✗ Hydrometer

Question Number : 157 Question Id : 16794310764 Question Type : MCQ Option Shuffling : Yes Display Question Number : Yes
Single Line Question Option : No Option Orientation : Vertical

Correct : 1 Wrong : 0.25

वातावरण की आर्द्रता को मापने वाले यंत्र का नाम क्या है?

Options :

- ✓ हाइग्रोमीटर

- ✖ पैंटोग्राफ
- ✖ साइक्रोमीटर
- ✖ हाइड्रोमीटर

Question Number : 158 Question Id : 16794310765 Question Type : MCQ Option Shuffling : Yes Display Question Number : Yes
Single Line Question Option : No Option Orientation : Vertical

Correct : 1 Wrong : 0.25

Identify the type of rainfall that is accompanied with thunder and lightening.

Options :

✔ Convectional

- ✖ Frontal
- ✖ Cumulus
- ✖ Orographic

Question Number : 158 Question Id : 16794310765 Question Type : MCQ Option Shuffling : Yes Display Question Number : Yes
Single Line Question Option : No Option Orientation : Vertical

Correct : 1 Wrong : 0.25

वर्षा के उस प्रकार की पहचान करें जिसके साथ गर्जना होती है और बिजली चमकती है?

Options :

✔ संवहनीय

- ✖ वाताग्री
- ✖ कपासी मेघ
- ✖ पर्वतीय

Question Number : 159 Question Id : 16794310766 Question Type : MCQ Option Shuffling : Yes Display Question Number : Yes
Single Line Question Option : No Option Orientation : Vertical

Correct : 1 Wrong : 0.25

Which of the following is a planetary wind?

Options :

✖ Mountain winds

✖ Monsoon winds

✔ Westerlies

✖ Jet stream

Question Number : 159 Question Id : 16794310766 Question Type : MCQ Option Shuffling : Yes Display Question Number : Yes
Single Line Question Option : No Option Orientation : Vertical

Correct : 1 Wrong : 0.25

निम्नलिखित में से कौन सी भूमंडलीय हवा है?

Options :

✖ पर्वतीय हवाएँ

✖ मॉनसूनी हवाएँ

✔ पश्चिमी हवाएँ

✖ प्रधार प्रवाह

Question Number : 160 Question Id : 16794310767 Question Type : MCQ Option Shuffling : Yes Display Question Number : Yes
Single Line Question Option : No Option Orientation : Vertical

Correct : 1 Wrong : 0.25

The maximum anomalies of temperature happen in:

Options :

✔ Northern hemisphere

✖ Southern hemisphere

✖ Oceans

✖ Mountains

Question Number : 160 Question Id : 16794310767 Question Type : MCQ Option Shuffling : Yes Display Question Number : Yes
Single Line Question Option : No Option Orientation : Vertical

Correct : 1 Wrong : 0.25

तापमान में अधिकतम विसंगतियाँ कहाँ होती हैं?

Options :

✔ उत्तरी गोलार्ध में

- ❌ दक्षिणी गोलार्ध में
- ❌ महासागरों में
- ❌ पर्वतों में

Subject Related	
Group Number :	9
Group Id :	167943320
Group Maximum Duration :	0
Group Minimum Duration :	0
Revisit allowed for view? :	No
Revisit allowed for edit? :	No
Break time:	0
Group Marks:	20

Subject Related	
Section Id :	167943379
Section Number :	1
Section type :	Online
Mandatory or Optional:	Mandatory
Number of Questions:	20
Number of Questions to be attempted:	20
Section Marks:	20
Display Number Panel:	Yes
Group All Questions:	No

Sub-Section Number:	1
Sub-Section Id:	167943672
Question Shuffling Allowed :	Yes

Question Number : 161 Question Id : 16794310768 Question Type : MCQ Option Shuffling : Yes Display Question Number : Yes
Single Line Question Option : No Option Orientation : Vertical
Correct : 1 Wrong : 0.25

In Koppen’s climatic classification ET and EF is identified by:

- Options :
- ❌ Soil is permanently frozen to depths of hundreds of meters.
 - ❌ Year-round cold temperatures with the warmest month less than 10 °C.
 - ❌ Vegetation is dominated by mosses, lichens, dwarf trees and scattered woody shrubs.

✓ All of the given options.

Question Number : 161 Question Id : 16794310768 Question Type : MCQ Option Shuffling : Yes Display Question Number : Yes
Single Line Question Option : No Option Orientation : Vertical

Correct : 1 Wrong : 0.25

कोपेन के जलवायु वर्गीकरण में ET और EF को किस के द्वारा पहचाना जाता है?

Options :

- ✗ मृदा स्थायी रूप से सैकड़ों मीटर की गहराई में जमी होती है।
- ✗ वर्ष भर तापमान ठंडा रहता है और सर्वाधिक गर्म माह में तापमान 10°C से कम रहता है।
- ✗ वनस्पति में काईयों, लाइकेनों, बौने वृक्षों और बिखरी हुई काष्ठीय झाड़ियों का प्रभुत्व होता है।

✓ दिये गए सभी विकल्प।

Question Number : 162 Question Id : 16794310769 Question Type : MCQ Option Shuffling : Yes Display Question Number : Yes
Single Line Question Option : No Option Orientation : Vertical

Correct : 1 Wrong : 0.25

If there is no atmosphere then the Earth's average temperature will be:

Options :

- ✗ Below the boiling temperature of water
- ✓ Below the freezing temperature of water
- ✗ Above the boiling temperature of water
- ✗ Above the freezing temperature of water

Question Number : 162 Question Id : 16794310769 Question Type : MCQ Option Shuffling : Yes Display Question Number : Yes
Single Line Question Option : No Option Orientation : Vertical

Correct : 1 Wrong : 0.25

यदि कोई वायुमंडल न हो, तो पृथ्वी का औसत तापमान क्या होगा?

Options :

- ✗ पानी के क्वथनांक से कम
- ✓ पानी के हिमांक से कम
- ✗ पानी के क्वथनांक से अधिक

❌ पानी के हिमांक से अधिक

Question Number : 163 Question Id : 16794310770 Question Type : MCQ Option Shuffling : Yes Display Question Number : Yes
Single Line Question Option : No Option Orientation : Vertical

Correct : 1 Wrong : 0.25

Diametrical extent of an eye of a hurricane can be:

Options :

❌ 100 to 150 miles

❌ 10 to 50 miles

✅ 20 to 40 miles

❌ 200 to 400 miles

Question Number : 163 Question Id : 16794310770 Question Type : MCQ Option Shuffling : Yes Display Question Number : Yes
Single Line Question Option : No Option Orientation : Vertical

Correct : 1 Wrong : 0.25

हरिकेन चक्रवात के पाश का व्यासीय विस्तार कितना हो सकता है?

Options :

❌ 100 से 150 miles

❌ 10 से 50 miles

✅ 20 से 40 miles

❌ 200 से 400 miles

Question Number : 164 Question Id : 16794310771 Question Type : MCQ Option Shuffling : Yes Display Question Number : Yes
Single Line Question Option : No Option Orientation : Vertical

Correct : 1 Wrong : 0.25

What is India's ranking in global climate risk index 2018?

Options :

❌ 4th

✅ 6th

❌ 10th

✖ 5th

Question Number : 164 Question Id : 16794310771 Question Type : MCQ Option Shuffling : Yes Display Question Number : Yes
Single Line Question Option : No Option Orientation : Vertical

Correct : 1 Wrong : 0.25

वैश्विक जलवायु जोखिम सूचकांक 2018 में भारत का स्थान कौन सा है?

Options :

✖ 4^{था}

✔ 6^{ठा}

✖ 10^{वाँ}

✖ 5^{वाँ}

Question Number : 165 Question Id : 16794310772 Question Type : MCQ Option Shuffling : Yes Display Question Number : Yes
Single Line Question Option : No Option Orientation : Vertical

Correct : 1 Wrong : 0.25

The first known great German Methodological Geographer in modern sense is:

Options :

✔ George Forster

✖ Glacken

✖ A.F. Bauche

✖ H.G. Hommeyer

Question Number : 165 Question Id : 16794310772 Question Type : MCQ Option Shuffling : Yes Display Question Number : Yes
Single Line Question Option : No Option Orientation : Vertical

Correct : 1 Wrong : 0.25

वर्तमान विवेकानुसार प्रथम महान जर्मन पद्धतिविज्ञानीय भूगोलवेत्ता कौन हैं?

Options :

✔ जॉर्ज फॉर्स्टर (George Forster)

✖ ग्लकेन (Glacken)

✖ ए. एफ. बुशे (A.F. Bauche)

✖ एच.जी. होमेयर (H.G.Hommeyer)

Question Number : 166 Question Id : 16794310773 Question Type : MCQ Option Shuffling : Yes Display Question Number : Yes
Single Line Question Option : No Option Orientation : Vertical

Correct : 1 Wrong : 0.25

Clear nights are colder than cloudier nights because of the phenomenon of:

Options :

✖ Insolation

✔ Radiation

✖ Dark sky

✖ Temperature variation

Question Number : 166 Question Id : 16794310773 Question Type : MCQ Option Shuffling : Yes Display Question Number : Yes
Single Line Question Option : No Option Orientation : Vertical

Correct : 1 Wrong : 0.25

साफ़ रातें _____ के कारण बादलों वाली रातों से अधिक ठंडी होती हैं।

Options :

✖ सूर्यताप

✔ विकिरण

✖ अन्धकारमय आकाश

✖ तापमान में परिवर्तन

Question Number : 167 Question Id : 16794310774 Question Type : MCQ Option Shuffling : Yes Display Question Number : Yes
Single Line Question Option : No Option Orientation : Vertical

Correct : 1 Wrong : 0.25

The fog that is formed along the sea coast is due to:

Options :

✖ Convection

✔ Advection

✖ Conduction

✖ Condensation

Question Number : 167 Question Id : 16794310774 Question Type : MCQ Option Shuffling : Yes Display Question Number : Yes
Single Line Question Option : No Option Orientation : Vertical

Correct : 1 Wrong : 0.25

समुद्र तट पर कोहरा किस के कारण उत्पन्न होता है?

Options :

✖ संवहन

✔ अभिवहन

✖ चालन

✖ संघनन

Question Number : 168 Question Id : 16794310775 Question Type : MCQ Option Shuffling : Yes Display Question Number : Yes
Single Line Question Option : No Option Orientation : Vertical

Correct : 1 Wrong : 0.25

Out of the many factors that affect the climate of a place, the most significant is:

Options :

✖ Distance from the sea

✔ Latitude

✖ Green cover

✖ Wind directions

Question Number : 168 Question Id : 16794310775 Question Type : MCQ Option Shuffling : Yes Display Question Number : Yes
Single Line Question Option : No Option Orientation : Vertical

Correct : 1 Wrong : 0.25

किसी स्थान की जलवायु को प्रभावित करने वाले कई कारकों में से सबसे महत्वपूर्ण कारक कौन सा होता है?

Options :

✖ समुद्र से दूरी

✔ अक्षांश

✖ हरित आवरण

✖ हवा की दिशाएँ

Question Number : 169 Question Id : 16794310776 Question Type : MCQ Option Shuffling : Yes Display Question Number : Yes
Single Line Question Option : No Option Orientation : Vertical

Correct : 1 Wrong : 0.25

A line drawn on a map that connects points of equal sunshine:

Options :

- ☐ Isohyets
- ☐ Isobars
- ☒ Isohel
- ☐ Isotherm

Question Number : 169 Question Id : 16794310776 Question Type : MCQ Option Shuffling : Yes Display Question Number : Yes
Single Line Question Option : No Option Orientation : Vertical

Correct : 1 Wrong : 0.25

एक मानचित्र पर दो समान धूप वाले बिंदुओं को जोड़ने के लिए खींची गई रेखा क्या कहलाती है?

Options :

- ☐ समवर्षा (आइसोहाइट्स)
- ☐ समदाब (आइसोबार)
- ☒ समप्रकाशीय (आइसोहेल)
- ☐ समतापीय (आइसोथर्म)

Question Number : 170 Question Id : 16794310777 Question Type : MCQ Option Shuffling : Yes Display Question Number : Yes
Single Line Question Option : No Option Orientation : Vertical

Correct : 1 Wrong : 0.25

The salinity levels along the coasts:

Options :

- ☐ Increases
- ☒ Decreases
- ☐ Stabilizes
- ☐ Unaffected

Question Number : 170 Question Id : 16794310777 Question Type : MCQ Option Shuffling : Yes Display Question Number : Yes
Single Line Question Option : No Option Orientation : Vertical

Correct : 1 Wrong : 0.25

तटों पर लवणता का स्तर कैसा रहता है?

Options :

- ✗ बढ़ता है
- ✓ घटता है
- ✗ स्थिर रहता है
- ✗ अप्रभावित रहता है

Question Number : 171 Question Id : 16794310778 Question Type : MCQ Option Shuffling : Yes Display Question Number : Yes
Single Line Question Option : No Option Orientation : Vertical

Correct : 1 Wrong : 0.25

Which of the following statements isn't true for ocean currents?

Options :

- ✗ They effect the trade as they keep harbors open.
- ✓ Ocean water is pure and clean
- ✗ They affect the fishing pattern in coastal areas
- ✗ Warm currents raise the temperature and cold polar currents reduce the temperature of the areas they pass through.

Question Number : 171 Question Id : 16794310778 Question Type : MCQ Option Shuffling : Yes Display Question Number : Yes
Single Line Question Option : No Option Orientation : Vertical

Correct : 1 Wrong : 0.25

निम्नलिखित में से कौन सा कथन समुद्री धाराओं के संबंध में सत्य नहीं है?

Options :

- ✗ वे वाणिज्य को प्रभावित करती हैं क्योंकि वे बंदरगाहों को खुला रखती हैं।
- ✓ महासागर का जल शुद्ध और साफ़ होता है।
- ✗ वे तटीय क्षेत्रों में मछली पकड़ने के स्वरूप (पैटर्न) को प्रभावित करती हैं।

गर्म धाराएँ उन क्षेत्रों का तापमान बढ़ाती हैं और ठंडी ध्रुवीय धाराएँ उन क्षेत्रों का तापमान कम करती हैं जहाँ से वे गुज़रती हैं।

Question Number : 172 Question Id : 16794310779 Question Type : MCQ Option Shuffling : Yes Display Question Number : Yes
Single Line Question Option : No Option Orientation : Vertical

Correct : 1 Wrong : 0.25

Y shaped ridge is located in:

Options :

- ✘ Atlantic Ocean
- ✔ Indian Ocean
- ✘ Bay of Bengal
- ✘ Pacific Ocean

Question Number : 172 Question Id : 16794310779 Question Type : MCQ Option Shuffling : Yes Display Question Number : Yes
Single Line Question Option : No Option Orientation : Vertical

Correct : 1 Wrong : 0.25

वाई (Y) आकार का कटक (रिज) कहाँ स्थित है?

Options :

- ✘ अटलांटिक महासागर
- ✔ हिंद महासागर
- ✘ बंगाल की खाड़ी
- ✘ प्रशांत महासागर

Question Number : 173 Question Id : 16794310780 Question Type : MCQ Option Shuffling : Yes Display Question Number : Yes
Single Line Question Option : No Option Orientation : Vertical

Correct : 1 Wrong : 0.25

अरब सागर को दो भागों में विभाजित करने वाला कटक (रिज) कहाँ स्थित है?

Options :

- ✘ कर्कमेक
- ✘ मेडागास्कर
- ✔ कार्ल्सबर्ग
- ✘ सेशेल्स

Question Number : 173 Question Id : 16794310780 Question Type : MCQ Option Shuffling : Yes Display Question Number : Yes
Single Line Question Option : No Option Orientation : Vertical

Correct : 1 Wrong : 0.25

Select the ridge that divides the Arabian Sea into two parts.

Options :

- ☐ Kerdemec
- ☐ Madagascar
- ☒ Carlsberg
- ☐ Seychelles

Question Number : 174 Question Id : 16794310781 Question Type : MCQ Option Shuffling : Yes Display Question Number : Yes
Single Line Question Option : No Option Orientation : Vertical

Correct : 1 Wrong : 0.25

Tsunami are a type of:

Options :

- ☐ Deep water wave
- ☒ Shallow water wave
- ☐ Hurricane
- ☐ Typhoons

Question Number : 174 Question Id : 16794310781 Question Type : MCQ Option Shuffling : Yes Display Question Number : Yes
Single Line Question Option : No Option Orientation : Vertical

Correct : 1 Wrong : 0.25

सुनामी एक प्रकार की/का _____।

Options :

- ☐ गहरे पानी की लहर है
- ☒ छिछले पानी की लहर है
- ☐ परिक्रामी चक्रवात (हरिकेन) है
- ☐ चक्रवात (टाईफून्स) है

Question Number : 175 Question Id : 16794310782 Question Type : MCQ Option Shuffling : Yes Display Question Number : Yes
Single Line Question Option : No Option Orientation : Vertical

Correct : 1 Wrong : 0.25

Most of deep sea sediments are deposited by:

Options :

- ☐ Ocean currents
- ☒ Rivers
- ☐ Microscopic organisms
- ☐ Cyclones

Question Number : 175 Question Id : 16794310782 Question Type : MCQ Option Shuffling : Yes Display Question Number : Yes
Single Line Question Option : No Option Orientation : Vertical
Correct : 1 Wrong : 0.25

गहरे समुद्र के अधिकतम तलछट किसके द्वारा जमा किए जाते हैं?

Options :

- ☐ महासागर की धाराओं द्वारा
- ☒ नदियों द्वारा
- ☐ अति सूक्ष्म जीवों द्वारा
- ☐ चक्रवातों द्वारा

Question Number : 176 Question Id : 16794310783 Question Type : MCQ Option Shuffling : Yes Display Question Number : Yes
Single Line Question Option : No Option Orientation : Vertical
Correct : 1 Wrong : 0.25

The salinity in polar areas during summers:

Options :

- ☐ Remains same
- ☐ Increases steadily
- ☐ Fluctuates
- ☒ Decreases

Question Number : 176 Question Id : 16794310783 Question Type : MCQ Option Shuffling : Yes Display Question Number : Yes
Single Line Question Option : No Option Orientation : Vertical
Correct : 1 Wrong : 0.25

ग्रीष्म ऋतु के दौरान ध्रुवीय क्षेत्रों में लवणता कैसी रहती है?

Options :

- ✖ वैसी ही बनी रहती है
- ✖ अनवरत बढ़ती है
- ✖ कम-अधिक होती है
- ✔ घटती है

Question Number : 177 Question Id : 16794310784 Question Type : MCQ Option Shuffling : Yes Display Question Number : Yes
Single Line Question Option : No Option Orientation : Vertical

Correct : 1 Wrong : 0.25

The ideal temperature range required for the survival of coral reef is:

Options :

- ✖ 22 to 25 °C
- ✖ 21 to 22 °C
- ✔ 18 to 30 °C
- ✖ 15 to 22 °C

Question Number : 177 Question Id : 16794310784 Question Type : MCQ Option Shuffling : Yes Display Question Number : Yes
Single Line Question Option : No Option Orientation : Vertical

Correct : 1 Wrong : 0.25

मूँगा चट्टान के अस्तित्व के लिए आवश्यक आदर्श तापमान सीमा क्या होती है?

Options :

- ✖ 22 से 25 °C
- ✖ 21 से 22 °C
- ✔ 18 से 30 °C
- ✖ 15 से 22 °C

Question Number : 178 Question Id : 16794310785 Question Type : MCQ Option Shuffling : Yes Display Question Number : Yes
Single Line Question Option : No Option Orientation : Vertical

Correct : 1 Wrong : 0.25

Dr. Rogers discovered the existence of a new zone in the ocean. It extends from 130 m to 300 m and is the fourth zone confirmed in the top 3,000 m of the ocean. Name this zone.

Options :

- ☐ Altiphotic
- ☐ Mesophotic
- ☐ Bathyal
- ☒ Rariphotic

Question Number : 178 Question Id : 16794310785 Question Type : MCQ Option Shuffling : Yes Display Question Number : Yes
Single Line Question Option : No Option Orientation : Vertical

Correct : 1 Wrong : 0.25

डॉ. रोजर्स ने महासागर में एक नए क्षेत्र के अस्तित्व की खोज की। यह 130 m से 300 m तक फैला हुआ है और महासागर के ऊपरी 3,000 m में यह चौथे क्षेत्र की पुष्टि करता है। इस क्षेत्र का नाम क्या है?

Options :

- ☐ एल्टिफोटिक
- ☐ मीज़ोफोटिक
- ☐ बाथयाल
- ☒ रैरीफोटिक

Question Number : 179 Question Id : 16794310786 Question Type : MCQ Option Shuffling : Yes Display Question Number : Yes
Single Line Question Option : No Option Orientation : Vertical

Correct : 1 Wrong : 0.25

Name the new ocean current discovered off the coast of Madagascar that feeds into the Mozambique channel.

Options :

- ☐ South east Madagascar coastal current
- ☒ South west Madagascar coastal current
- ☐ Eastern Madagascar coastal current
- ☐ Northern Madagascar coastal current

Question Number : 179 Question Id : 16794310786 Question Type : MCQ Option Shuffling : Yes Display Question Number : Yes
Single Line Question Option : No Option Orientation : Vertical

Correct : 1 Wrong : 0.25

मेडागास्कर के तट पर खोजी गई नयी महासागरीय धारा, जो मोज़ाम्बीक प्रणाल (चैनल) को जल प्रदान करती है, उसका नाम क्या है?

Options :

- ✖ दक्षिण पूर्व मेडागास्कर तटीय धारा
- ✔ दक्षिण पश्चिम मेडागास्कर तटीय धारा
- ✖ पूर्वी मेडागास्कर तटीय धारा
- ✖ उत्तरी मेडागास्कर तटीय धारा

Question Number : 180 Question Id : 16794310787 Question Type : MCQ Option Shuffling : Yes Display Question Number : Yes
Single Line Question Option : No Option Orientation : Vertical

Correct : 1 Wrong : 0.25

Which is the longest river in Antarctica?

Options :

- ✔ Onyx
- ✖ Alph
- ✖ Rezovski
- ✖ Delta

Question Number : 180 Question Id : 16794310787 Question Type : MCQ Option Shuffling : Yes Display Question Number : Yes
Single Line Question Option : No Option Orientation : Vertical

Correct : 1 Wrong : 0.25

अंटार्कटिका की सबसे अधिक लंबी नदी कौन सी है?

Options :

- ✔ ऑनिक्स
- ✖ एल्फ़
- ✖ रिज़ोव्स्की
- ✖ डेल्टा

Subject Related

Group Number :	10
Group Id :	167943321
Group Maximum Duration :	0
Group Minimum Duration :	0

Revisit allowed for view? :	No
Revisit allowed for edit? :	No
Break time:	0
Group Marks:	20

	Subject Related
Section Id :	167943380
Section Number :	1
Section type :	Online
Mandatory or Optional:	Mandatory
Number of Questions:	20
Number of Questions to be attempted:	20
Section Marks:	20
Display Number Panel:	Yes
Group All Questions:	No

Sub-Section Number:	1
Sub-Section Id:	167943673
Question Shuffling Allowed :	Yes

Question Number : 181 Question Id : 16794310788 Question Type : MCQ Option Shuffling : Yes Display Question Number : Yes
Single Line Question Option : No Option Orientation : Vertical
Correct : 1 Wrong : 0.25

Which of the following seas have highest salinity?

Options :

- ✓ Red sea
- ✗ Mediterranean Sea
- ✗ Arabian sea
- ✗ Black sea

Question Number : 181 Question Id : 16794310788 Question Type : MCQ Option Shuffling : Yes Display Question Number : Yes
Single Line Question Option : No Option Orientation : Vertical
Correct : 1 Wrong : 0.25

निम्नलिखित में से किस सागर में सबसे अधिक लवणता है?

Options :

- ✓ लाल सागर
- ✗ भूमध्य सागर
- ✗ अरब सागर

✖ काला सागर

Question Number : 182 Question Id : 16794310789 Question Type : MCQ Option Shuffling : Yes Display Question Number : Yes
Single Line Question Option : No Option Orientation : Vertical

Correct : 1 Wrong : 0.25

The temperature of water in the oceans is sourced by:

Options :

✖ The planets of solar system

✔ The Sun

✖ The oceanic crust

✖ The Earth

Question Number : 182 Question Id : 16794310789 Question Type : MCQ Option Shuffling : Yes Display Question Number : Yes
Single Line Question Option : No Option Orientation : Vertical

Correct : 1 Wrong : 0.25

महासागरों में जल का तापमान किसके द्वारा नियंत्रित होता है?

Options :

✖ सौर मंडल के ग्रहों द्वारा

✔ सूर्य द्वारा

✖ महासागर की बाह्य सतह द्वारा

✖ पृथ्वी द्वारा

Question Number : 183 Question Id : 16794310790 Question Type : MCQ Option Shuffling : Yes Display Question Number : Yes
Single Line Question Option : No Option Orientation : Vertical

Correct : 1 Wrong : 0.25

Flandrian transgression implies:

Options :

✖ Flooding of plain areas.

✖ Rise of sea level due to climate change.

✔ Increase in sea level in the post Pleistocene era.

✘ Floods in coastal areas due to high tides.

Question Number : 183 Question Id : 16794310790 Question Type : MCQ Option Shuffling : Yes Display Question Number : Yes
Single Line Question Option : No Option Orientation : Vertical

Correct : 1 Wrong : 0.25

फ्रैन्डियन अतिक्रमण (ट्रांसग्रेशन) का तात्पर्य क्या है?

Options :

- ✘ समतल क्षेत्रों में बाढ़
- ✘ जलवायु परिवर्तन के कारण समुद्र के स्तर में वृद्धि
- ✓ प्लीस्टोसीन युग के पश्चात् समुद्र के स्तर में वृद्धि
- ✘ ज्वार के कारण तटीय क्षेत्रों में बाढ़

Question Number : 184 Question Id : 16794310791 Question Type : MCQ Option Shuffling : Yes Display Question Number : Yes
Single Line Question Option : No Option Orientation : Vertical

Correct : 1 Wrong : 0.25

The factors affecting oceans currents include:

Options :

- ✘ Salinity
- ✘ Direction and force of winds
- ✘ Gravitational force
- ✓ All of the given options

Question Number : 184 Question Id : 16794310791 Question Type : MCQ Option Shuffling : Yes Display Question Number : Yes
Single Line Question Option : No Option Orientation : Vertical

Correct : 1 Wrong : 0.25

महासागर की धाराओं को प्रभावित करने वाले कारकों में क्या सम्मिलित है?

Options :

- ✘ लवणता
- ✘ हवाओं की दिशा और बल
- ✘ गुरुत्वाकर्षण बल

✓ दिये गए सभी विकल्प

Question Number : 185 Question Id : 16794310792 Question Type : MCQ Option Shuffling : Yes Display Question Number : Yes
Single Line Question Option : No Option Orientation : Vertical

Correct : 1 Wrong : 0.25

Read the following assertion and reason statements carefully.

Assertion (A): The Indian monsoon is affected by El Nino and Southern Oscillation.

Reason (R): Off the coast of Peru, there is normally cool surface water. But El Nino makes it become warm. The warm water causes lots of clouds getting formed in that area, causing heavy rains in Peruvian desert during El Nino years.

Select the correct option.

Options :

- ✗ Both A and R are true, and R is the correct explanation of A.
- ✓ Both A and R are true, and R is not the correct explanation of A.
- ✗ A is true, R is false.
- ✗ A is false, R is true.

Question Number : 185 Question Id : 16794310792 Question Type : MCQ Option Shuffling : Yes Display Question Number : Yes
Single Line Question Option : No Option Orientation : Vertical

Correct : 1 Wrong : 0.25

नीचे दिए गए अभिकथन और कारण को पढ़िए।

अभिकथन (A): भारतीय मॉनसून एल नीनो और दक्षिणी दोलन से प्रभावित होता है।

कारण (R): पेरू के तट पर, सामान्यतः जल की सतह ठंडी होती है। किंतु एल नीनो इसे गर्म कर देती है। गर्म जल के कारण उस क्षेत्र में अनेक बादल निर्मित होने लगते हैं, जिस के कारण एल नीनो वर्षों के दौरान पेरू के रेगिस्तान में भारी वर्षा होती है।

सही विकल्प को चुने।

Options :

- ✗ A और R दोनों सत्य, और R, A की सही व्याख्या है।
- ✓ A और R दोनों सत्य हैं, और R, A की सही व्याख्या नहीं है।
- ✗ A सत्य है, R असत्य है।
- ✗ A असत्य है, R सत्य है।

Question Number : 186 Question Id : 16794310793 Question Type : MCQ Option Shuffling : Yes Display Question Number : Yes
Single Line Question Option : No Option Orientation : Vertical

Correct : 1 Wrong : 0.25

In which world level convention was Agenda 21 adopted?

Options :

✓ Rio Earth summit

✗ Paris convention

✗ Stockholm convention

✗ BRICS summit

Question Number : 186 Question Id : 16794310793 Question Type : MCQ Option Shuffling : Yes Display Question Number : Yes
Single Line Question Option : No Option Orientation : Vertical

Correct : 1 Wrong : 0.25

कार्यावली (एजेंडा) 21 किस विश्व स्तरीय सम्मेलन में अपनायी गई थी?

Options :

✓ रियो पृथ्वी शिखर सम्मेलन

✗ पेरिस सम्मेलन

✗ स्टॉकहोम सम्मेलन

✗ ब्रिक्स (बीआरआईसीएस) शिखर सम्मेलन

Question Number : 187 Question Id : 16794310794 Question Type : MCQ Option Shuffling : Yes Display Question Number : Yes
Single Line Question Option : No Option Orientation : Vertical

Correct : 1 Wrong : 0.25

Cadmium pollution causes which disease?

Options :

✗ Typhoid

✓ Itai-itai

✗ Foot and mouth disease

✗ Ulcers

Question Number : 187 Question Id : 16794310794 Question Type : MCQ Option Shuffling : Yes Display Question Number : Yes
Single Line Question Option : No Option Orientation : Vertical

Correct : 1 Wrong : 0.25

कैडमियम प्रदूषण किस बीमारी का कारण बनता है?

Options :

- ☐ टाइफ़ॉइड
- ☒ इताई-इताई
- ☐ पैर और मुँह का रोग
- ☐ ब्रण (अल्सर)

Question Number : 188 Question Id : 16794310795 Question Type : MCQ Option Shuffling : Yes Display Question Number : Yes
Single Line Question Option : No Option Orientation : Vertical

Correct : 1 Wrong : 0.25

The ozone layer gets maximum depleted by which pollutant?

Options :

- ☐ Carbon monoxide
- ☐ Carbon dioxide
- ☐ Smog
- ☒ Chlorofluorocarbons

Question Number : 188 Question Id : 16794310795 Question Type : MCQ Option Shuffling : Yes Display Question Number : Yes
Single Line Question Option : No Option Orientation : Vertical

Correct : 1 Wrong : 0.25

ओज़ोन सतह किस प्रदूषक द्वारा अधिकतम जर्जर होती है?

Options :

- ☐ कार्बन मोनोऑक्साइड
- ☐ कार्बन डाइऑक्साइड
- ☐ धूम्रयुक्त कोहरा
- ☒ क्लोरोफ़्लोरोकार्बन

Question Number : 189 Question Id : 16794310796 Question Type : MCQ Option Shuffling : Yes Display Question Number : Yes
Single Line Question Option : No Option Orientation : Vertical

Correct : 1 Wrong : 0.25

What human actions produce maximum carbon dioxide in the atmosphere?

Options :

- ☐ Deforestation
- ☒ Burning fossil fuel
- ☐ Fire crackers
- ☐ Industrial wastes

Question Number : 189 Question Id : 16794310796 Question Type : MCQ Option Shuffling : Yes Display Question Number : Yes
Single Line Question Option : No Option Orientation : Vertical

Correct : 1 Wrong : 0.25

कौन सी मानव क्रियाएँ वायुमंडल में अधिकतम कार्बन डाइऑक्साइड उत्पन्न करती हैं?

Options :

- ☐ वनों की कटाई
- ☒ जीवाश्म ईंधन जलाना
- ☐ पटाखे फोड़ना
- ☐ औद्योगिक अपशिष्ट

Question Number : 190 Question Id : 16794310797 Question Type : MCQ Option Shuffling : Yes Display Question Number : Yes
Single Line Question Option : No Option Orientation : Vertical

Correct : 1 Wrong : 0.25

Which one is a part of sedimentary cycles?

Options :

- ☒ Iron
- ☐ Carbon
- ☐ Hydrogen
- ☐ Oxygen

Question Number : 190 Question Id : 16794310797 Question Type : MCQ Option Shuffling : Yes Display Question Number : Yes
Single Line Question Option : No Option Orientation : Vertical

Correct : 1 Wrong : 0.25

निम्नलिखित में से क्या तलछट चक्रों का एक भाग है?

Options :

- ✓ लौह
- ✗ कार्बन
- ✗ हाइड्रोजन
- ✗ ऑक्सीजन

Question Number : 191 Question Id : 16794310798 Question Type : MCQ Option Shuffling : Yes Display Question Number : Yes
Single Line Question Option : No Option Orientation : Vertical

Correct : 1 Wrong : 0.25

Which biological processes mediate the exchange of carbon between the atmosphere or hydrosphere and the biosphere?

Options :

- ✗ Photosynthesis
- ✗ Respiration
- ✗ Decomposition
- ✓ Both Photosynthesis and Respiration

Question Number : 191 Question Id : 16794310798 Question Type : MCQ Option Shuffling : Yes Display Question Number : Yes
Single Line Question Option : No Option Orientation : Vertical

Correct : 1 Wrong : 0.25

कौन सी जैविक प्रक्रिया वायुमंडल या वाष्पमंडल और जीवमंडल के बीच कार्बन के आदान-प्रदान में मध्यस्थता करती है?

Options :

- ✗ प्रकाश संश्लेषण
- ✗ श्वसन
- ✗ विघटन
- ✓ प्रकाश संश्लेषण और श्वसन दोनों

Question Number : 192 Question Id : 16794310799 Question Type : MCQ Option Shuffling : Yes Display Question Number : Yes
Single Line Question Option : No Option Orientation : Vertical

Correct : 1 Wrong : 0.25

If all carbon dioxide were somehow suddenly removed from the atmosphere, the ocean would replenish the supply:

Options :

- ☐ Within a few days
- ☐ Within a few weeks
- ☐ Within a year
- ☒ Within a few thousand years

Question Number : 192 Question Id : 16794310799 Question Type : MCQ Option Shuffling : Yes Display Question Number : Yes
Single Line Question Option : No Option Orientation : Vertical

Correct : 1 Wrong : 0.25

यदि किसी प्रकार समस्त कार्बन डाइऑक्साइड को अकस्मात वातावरण में से निकाल दिया जाए, तो महासागर इसकी आपूर्ति पुनः कितने समय में कर देगा?

Options :

- ☐ कुछ दिनों के अंदर
- ☐ कुछ सप्ताह के अंदर
- ☐ एक वर्ष के अंदर
- ☒ कुछ हजार वर्षों के अंदर

Question Number : 193 Question Id : 16794310800 Question Type : MCQ Option Shuffling : Yes Display Question Number : Yes
Single Line Question Option : No Option Orientation : Vertical

Correct : 1 Wrong : 0.25

Heavy metal pollution of water is caused by:

Options :

- ☐ Firewood
- ☐ Petrol
- ☐ Domestic sewage
- ☒ Industries

Question Number : 193 Question Id : 16794310800 Question Type : MCQ Option Shuffling : Yes Display Question Number : Yes
Single Line Question Option : No Option Orientation : Vertical

Correct : 1 Wrong : 0.25

जल में भारी धातु (हैवी मेटल) प्रदूषण किस कारण होता है?

Options :

- ✘ अलाव की लकड़ी से
- ✘ पेट्रोल से
- ✘ घरेलू जलमल से
- ✔ उद्योग से

Question Number : 194 Question Id : 16794310801 Question Type : MCQ Option Shuffling : Yes Display Question Number : Yes
Single Line Question Option : No Option Orientation : Vertical

Correct : 1 Wrong : 0.25

Select the hotspot of biodiversity in India?

Options :

- ✔ Western ghats
- ✘ Eastern ghats
- ✘ Sunderbans
- ✘ Thar desert

Question Number : 194 Question Id : 16794310801 Question Type : MCQ Option Shuffling : Yes Display Question Number : Yes
Single Line Question Option : No Option Orientation : Vertical

Correct : 1 Wrong : 0.25

भारत में जैव विविधता के अतिक्षेत्र (हॉटस्पॉट) का चयन करें?

Options :

- ✔ पश्चिमी घाट
- ✘ पूर्वी घाट
- ✘ सुंदरबन
- ✘ थार रेगिस्तान

Question Number : 195 Question Id : 16794310802 Question Type : MCQ Option Shuffling : Yes Display Question Number : Yes
Single Line Question Option : No Option Orientation : Vertical

Correct : 1 Wrong : 0.25

Plants that can grow on the burnt soil are named:

Options :

- ☒ Pyrophilous
- ☐ Firephilous
- ☐ Xerophilous
- ☐ Heliophilous

Question Number : 195 Question Id : 16794310802 Question Type : MCQ Option Shuffling : Yes Display Question Number : Yes
Single Line Question Option : No Option Orientation : Vertical

Correct : 1 Wrong : 0.25

जो पौधे जली हुई मिट्टी में पनप सकते हैं उन्हें क्या कहा जाता है?

Options :

- ☒ दग्ध-क्षेत्र रागी (पाइरोफ़िलस)
- ☐ अग्नि रागी (फ़ायरफ़िलस)
- ☐ मरुद्विद रागी (ज़ीरोफ़िलस)
- ☐ आतप रागी (हीलिओफ़िलस)

Question Number : 196 Question Id : 16794310803 Question Type : MCQ Option Shuffling : Yes Display Question Number : Yes
Single Line Question Option : No Option Orientation : Vertical

Correct : 1 Wrong : 0.25

Broad leaf deciduous forest is found in:

Options :

- ☐ Tundra region
- ☐ Monsoon region
- ☒ Temperate region
- ☐ Alpine region

Question Number : 196 Question Id : 16794310803 Question Type : MCQ Option Shuffling : Yes Display Question Number : Yes
Single Line Question Option : No Option Orientation : Vertical

Correct : 1 Wrong : 0.25

चौड़ी पत्ती वाले पर्णपाती वन कहाँ पाए जाते हैं?

Options :

- ☐ टुंड्रा क्षेत्र
- ☐ मॉनसून क्षेत्र
- ☒ समशीतोष्ण क्षेत्र
- ☐ आल्पीय क्षेत्र

Question Number : 197 Question Id : 16794310804 Question Type : MCQ Option Shuffling : Yes Display Question Number : Yes
Single Line Question Option : No Option Orientation : Vertical

Correct : 1 Wrong : 0.25

वनस्पति या पौधों की प्रमुख विशेषताओं को किसके द्वारा नियंत्रित किया जाता है?

Options :

- ☐ ऊँचाई
- ☒ जलवायु
- ☐ मानव
- ☐ मिट्टी

Question Number : 197 Question Id : 16794310804 Question Type : MCQ Option Shuffling : Yes Display Question Number : Yes
Single Line Question Option : No Option Orientation : Vertical

Correct : 1 Wrong : 0.25

The major characteristics of vegetation or plants are controlled by:

Options :

- ☐ Altitude
- ☒ Climate
- ☐ Humans
- ☐ Soil

Question Number : 198 Question Id : 16794310805 Question Type : MCQ Option Shuffling : Yes Display Question Number : Yes
Single Line Question Option : No Option Orientation : Vertical

Correct : 1 Wrong : 0.25

Deforestation may have highest negative impact on:

Options :

- ☐ Cyclones
- ☒ Rainfall
- ☐ Landslides
- ☐ Soil fertility

Question Number : 198 Question Id : 16794310805 Question Type : MCQ Option Shuffling : Yes Display Question Number : Yes
Single Line Question Option : No Option Orientation : Vertical

Correct : 1 Wrong : 0.25

वनों की कटाई का किस पर सर्वाधिक नकारात्मक प्रभाव पड़ सकता है?

Options :

- ☐ चक्रवातों पर
- ☒ वर्षा पर
- ☐ भूस्खलनों पर
- ☐ मृदा उर्वरता पर

Question Number : 199 Question Id : 16794310806 Question Type : MCQ Option Shuffling : Yes Display Question Number : Yes
Single Line Question Option : No Option Orientation : Vertical

Correct : 1 Wrong : 0.25

World environment day is on:

Options :

- ☐ 10th June
- ☒ 5th June
- ☐ 10th march
- ☐ 5th march

Question Number : 199 Question Id : 16794310806 Question Type : MCQ Option Shuffling : Yes Display Question Number : Yes
Single Line Question Option : No Option Orientation : Vertical

Correct : 1 Wrong : 0.25

विश्व पर्यावरण दिवस कब मनाया जाता है?

Options :

- ✖ 10 जून को
- ✔ 5 जून को
- ✖ 10 मार्च को
- ✖ 5 मार्च को

Question Number : 200 Question Id : 16794310807 Question Type : MCQ Option Shuffling : Yes Display Question Number : Yes
Single Line Question Option : No Option Orientation : Vertical

Correct : 1 Wrong : 0.25

The extent of Mesosphere is between:

Options :

- ✖ 10-30 km
- ✖ 60-80 km
- ✖ Above 100 km
- ✔ 50-80 km

Question Number : 200 Question Id : 16794310807 Question Type : MCQ Option Shuffling : Yes Display Question Number : Yes
Single Line Question Option : No Option Orientation : Vertical

Correct : 1 Wrong : 0.25

मीज़ोस्फीयर की विस्तार सीमा क्या है?

Options :

- ✖ 10-30 km
- ✖ 60-80 km
- ✖ 100 km के ऊपर
- ✔ 50-80 km

Subject Related

Group Number :

11

Group Id :

167943322

Group Maximum Duration :	0
Group Minimum Duration :	0
Revisit allowed for view? :	No
Revisit allowed for edit? :	No
Break time:	0
Group Marks:	20

Subject Related

Section Id :	167943381
Section Number :	1
Section type :	Online
Mandatory or Optional:	Mandatory
Number of Questions:	20
Number of Questions to be attempted:	20
Section Marks:	20
Display Number Panel:	Yes
Group All Questions:	No

Sub-Section Number:	1
Sub-Section Id:	167943674
Question Shuffling Allowed :	Yes

Question Number : 201 Question Id : 16794310808 Question Type : MCQ Option Shuffling : Yes Display Question Number : Yes
Single Line Question Option : No Option Orientation : Vertical

Correct : 1 Wrong : 0.25

Which approach in environmental geography is based on religious faith of man being superior to nature and all other creatures?

Options :

- ✗ Environmental Deterministic Approach
- ✓ Teleological Approach
- ✗ Possibilist Approach
- ✗ Ecological Approach

Question Number : 201 Question Id : 16794310808 Question Type : MCQ Option Shuffling : Yes Display Question Number : Yes
Single Line Question Option : No Option Orientation : Vertical

Correct : 1 Wrong : 0.25

पर्यावरण भूगोल में मनुष्य के धार्मिक विश्वास पर आधारित कौन सा दृष्टिकोण उसे प्रकृति और अन्य सभी प्राणियों से बेहतर बनाता है?

Options :

- ✗ पर्यावरण नियतात्मक दृष्टिकोण

- ✓ चरमकारणवाद (टेलिअलोजिकल) दृष्टिकोण
- ✗ शक्यतावादी दृष्टिकोण
- ✗ पारिस्थितिक दृष्टिकोण

Question Number : 202 Question Id : 16794310809 Question Type : MCQ Option Shuffling : Yes Display Question Number : Yes
Single Line Question Option : No Option Orientation : Vertical

Correct : 1 Wrong : 0.25

Which of the following is not a part of biosphere reserve in India?

Options :

- ✓ Bundala BR
- ✗ Simlipal
- ✗ Nokrek
- ✗ Corbett

Question Number : 202 Question Id : 16794310809 Question Type : MCQ Option Shuffling : Yes Display Question Number : Yes
Single Line Question Option : No Option Orientation : Vertical

Correct : 1 Wrong : 0.25

निम्नलिखित में से कौन सा भारत में जीवमंडल रिजर्व का हिस्सा नहीं है?

Options :

- ✓ बुंदला बीआर
- ✗ सिम्पलीपल
- ✗ नोकरेक
- ✗ कॉर्बेट

Question Number : 203 Question Id : 16794310810 Question Type : MCQ Option Shuffling : Yes Display Question Number : Yes
Single Line Question Option : No Option Orientation : Vertical

Correct : 1 Wrong : 0.25

Ratnakara is a term of ancient Indian Geography that describes:

Options :

- ✗ The Great Indian Desert

- ✖ The Gulf of Kachchh
- ✔ The Indian Ocean
- ✖ The Himalayas

Question Number : 203 Question Id : 16794310810 Question Type : MCQ Option Shuffling : Yes Display Question Number : Yes
Single Line Question Option : No Option Orientation : Vertical

Correct : 1 Wrong : 0.25

रत्नाकर प्राचीन भारतीय भूगोल का एक शब्द है। यह किसका वर्णन करता है?

Options :

- ✖ महान भारतीय रेगिस्तान (ग्रेट इंडियन डेजर्ट)
- ✖ कच्छ की खाड़ी
- ✔ हिंद महासागर
- ✖ हिमालय

Question Number : 204 Question Id : 16794310811 Question Type : MCQ Option Shuffling : Yes Display Question Number : Yes
Single Line Question Option : No Option Orientation : Vertical

Correct : 1 Wrong : 0.25

The oldest and the youngest mountain ranges are:

Options :

- ✖ The Alps and the Sahayadris
- ✔ The Aravalli and the Himalayas
- ✖ The Urals and the Himalayas
- ✖ The Nilgiris and the Himalayas

Question Number : 204 Question Id : 16794310811 Question Type : MCQ Option Shuffling : Yes Display Question Number : Yes
Single Line Question Option : No Option Orientation : Vertical

Correct : 1 Wrong : 0.25

निम्नलिखित में से सबसे पुरानी और सबसे युवा पर्वत श्रृंखला कौनसी हैं?

Options :

- ✖ एल्प्स और सह्याद्री

✓ अरावली और हिमालय

✗ यूराल और हिमालय

✗ नीलगिरी और हिमालय

Question Number : 205 Question Id : 16794310812 Question Type : MCQ Option Shuffling : Yes Display Question Number : Yes
Single Line Question Option : No Option Orientation : Vertical

Correct : 1 Wrong : 0.25

India's East-West extent, which is 2933km, is nearly 300km shorter than its North-South extent, which is 3214km. This difference is due to:

Options :

✗ Latitudes are equidistant

✗ Longitudes converge on the poles

✗ The distance between longitudes gets reduced as we move away from the equator

✓ All of the given options

Question Number : 205 Question Id : 16794310812 Question Type : MCQ Option Shuffling : Yes Display Question Number : Yes
Single Line Question Option : No Option Orientation : Vertical

Correct : 1 Wrong : 0.25

भारत की पूर्व-पश्चिम सीमा जो 2933 Km है जो इसकी उत्तर-दक्षिण सीमा के 3214 Km की तुलना में लगभग 300 Km कम है। यह अंतर किस कारण से है?

Options :

✗ अक्षांश समतुल्य होते हैं

✗ ध्रुवों पर दक्षांशों का अभिसरण

✗ जब हम भूमध्य रेखा से दूर बढ़ते हैं तो दक्षांशों के बीच दूरी कम हो जाती है

✓ दिए गए विकल्पों में से सभी

Question Number : 206 Question Id : 16794310813 Question Type : MCQ Option Shuffling : Yes Display Question Number : Yes
Single Line Question Option : No Option Orientation : Vertical

Correct : 1 Wrong : 0.25

Which of the following ranges are trans Himalayan ranges?

Options :

- ✘ Pir panjal range
- ✘ Hindukush range
- ✔ Zaskar range
- ✘ Garhwal Himalayas

Question Number : 206 Question Id : 16794310813 Question Type : MCQ Option Shuffling : Yes Display Question Number : Yes
Single Line Question Option : No Option Orientation : Vertical

Correct : 1 Wrong : 0.25

निम्नलिखित में से किस पर्वत श्रृंखला को ट्रांस हिमालय के रूप में जाना जाता है?

Options :

- ✘ पीर पंजाल पर्वतमाला
- ✘ हिन्दुकुश पर्वतमाला
- ✔ जास्कार पर्वतमाला
- ✘ गढ़वाल हिमालय

Question Number : 207 Question Id : 16794310814 Question Type : MCQ Option Shuffling : Yes Display Question Number : Yes
Single Line Question Option : No Option Orientation : Vertical

Correct : 1 Wrong : 0.25

What makes the boundary between India and Burma known as:

Options :

- ✘ Mac mohan line
- ✔ Patkai Bum range
- ✘ Karakoram ranges
- ✘ Thag la pass

Question Number : 207 Question Id : 16794310814 Question Type : MCQ Option Shuffling : Yes Display Question Number : Yes
Single Line Question Option : No Option Orientation : Vertical

Correct : 1 Wrong : 0.25

भारत और बर्मा के बीच कौन सीमा बनाता है?

Options :

- ✖ मैक मोहन रेखा
- ✔ पटकाई बम पर्वतमाला
- ✖ काराकोरम पर्वतमाला
- ✖ थग ला दर्रा

Question Number : 208 Question Id : 16794310815 Question Type : MCQ Option Shuffling : Yes Display Question Number : Yes
Single Line Question Option : No Option Orientation : Vertical

Correct : 1 Wrong : 0.25

The Jelep la pass is situated in:

Options :

- ✔ North eastern frontier
- ✖ North western frontier
- ✖ Western frontier
- ✖ Northern frontier

Question Number : 208 Question Id : 16794310815 Question Type : MCQ Option Shuffling : Yes Display Question Number : Yes
Single Line Question Option : No Option Orientation : Vertical

Correct : 1 Wrong : 0.25

जेलेप ला दर्रा कहाँ पर स्थित है?

Options :

- ✔ उत्तर पूर्वी सीमा
- ✖ उत्तर पश्चिमी सीमा
- ✖ पश्चिमी सीमा
- ✖ उत्तरी सीमा

Question Number : 209 Question Id : 16794310816 Question Type : MCQ Option Shuffling : Yes Display Question Number : Yes
Single Line Question Option : No Option Orientation : Vertical

Correct : 1 Wrong : 0.25

Which country is located on west of India?

Options :

- ✖ Bangladesh
- ✖ Srilanka
- ✔ Pakistan
- ✖ China

Question Number : 209 Question Id : 16794310816 Question Type : MCQ Option Shuffling : Yes Display Question Number : Yes
Single Line Question Option : No Option Orientation : Vertical

Correct : 1 Wrong : 0.25

भारत के पश्चिम में कौन सा देश स्थित है?

Options :

- ✖ बांग्लादेश
- ✖ श्रीलंका
- ✔ पाकिस्तान
- ✖ चीन

Question Number : 210 Question Id : 16794310817 Question Type : MCQ Option Shuffling : Yes Display Question Number : Yes
Single Line Question Option : No Option Orientation : Vertical

Correct : 1 Wrong : 0.25

The Patkai hills separate India from:

Options :

- ✖ Pakistan
- ✔ Burma
- ✖ Nepal
- ✖ China

Question Number : 210 Question Id : 16794310817 Question Type : MCQ Option Shuffling : Yes Display Question Number : Yes
Single Line Question Option : No Option Orientation : Vertical

Correct : 1 Wrong : 0.25

पतकाई पहाड़ियां भारत को किस देश से अलग करती हैं?

Options :

- ✖ पाकिस्तान

- ✓ बर्मा
- ✗ नेपाल
- ✗ चीन

Question Number : 211 Question Id : 16794310818 Question Type : MCQ Option Shuffling : Yes Display Question Number : Yes
Single Line Question Option : No Option Orientation : Vertical

Correct : 1 Wrong : 0.25

How many major ports are located on Indian peninsular coastline?

Options :

- ✗ 10
- ✗ 11
- ✓ 12
- ✗ 13

Question Number : 211 Question Id : 16794310818 Question Type : MCQ Option Shuffling : Yes Display Question Number : Yes
Single Line Question Option : No Option Orientation : Vertical

Correct : 1 Wrong : 0.25

भारतीय प्रायद्वीपीय समुद्रतट रेखा पर कितने प्रमुख बंदरगाह स्थित हैं?

Options :

- ✗ 10
- ✗ 11
- ✓ 12
- ✗ 13

Question Number : 212 Question Id : 16794310819 Question Type : MCQ Option Shuffling : Yes Display Question Number : Yes
Single Line Question Option : No Option Orientation : Vertical

Correct : 1 Wrong : 0.25

Peninsular India is:

Options :

- ✓ Old tabular block
- ✗ Ridge block

- ✘ Undulating plane block
- ✘ None of the given options

Question Number : 212 Question Id : 16794310819 Question Type : MCQ Option Shuffling : Yes Display Question Number : Yes
Single Line Question Option : No Option Orientation : Vertical

Correct : 1 Wrong : 0.25

प्रायद्वीपीय भारत वस्तुतः क्या है?

Options :

- ✔ पुराने तहदार खंड
- ✘ पर्वत पृष्ठ खंड
- ✘ लहरदार समतल खंड
- ✘ इनमें से कोई भी नहीं

Question Number : 213 Question Id : 16794310820 Question Type : MCQ Option Shuffling : Yes Display Question Number : Yes
Single Line Question Option : No Option Orientation : Vertical

Correct : 1 Wrong : 0.25

Which is the largest glacier in India?

Options :

- ✘ Hispar
- ✘ Baltoro
- ✘ Biafo
- ✔ Siachen

Question Number : 213 Question Id : 16794310820 Question Type : MCQ Option Shuffling : Yes Display Question Number : Yes
Single Line Question Option : No Option Orientation : Vertical

Correct : 1 Wrong : 0.25

भारत में सबसे बड़ा हिमनद कौन सा है?

Options :

- ✘ हिस्पार
- ✘ बालतोड़ो

✘ बिआफो

✔ सियाचिन

Question Number : 214 Question Id : 16794310821 Question Type : MCQ Option Shuffling : Yes Display Question Number : Yes
Single Line Question Option : No Option Orientation : Vertical

Correct : 1 Wrong : 0.25

The alluvial soils of India is about _____ percent of reporting area.

Options :

✔ 43.4

✘ 53.4

✘ 63.4

✘ 73.4

Question Number : 214 Question Id : 16794310821 Question Type : MCQ Option Shuffling : Yes Display Question Number : Yes
Single Line Question Option : No Option Orientation : Vertical

Correct : 1 Wrong : 0.25

भारत की जलोढ़ मिट्टी रिपोर्टिंग क्षेत्र का लगभग _____ प्रतिशत है।

Options :

✔ 43.4

✘ 53.4

✘ 63.4

✘ 73.4

Question Number : 215 Question Id : 16794310822 Question Type : MCQ Option Shuffling : Yes Display Question Number : Yes
Single Line Question Option : No Option Orientation : Vertical

Correct : 1 Wrong : 0.25

In delta region of India, uplands are known as:

Options :

✔ Chars

✘ Bils

✘ Reh

✖ Thur

Question Number : 215 Question Id : 16794310822 Question Type : MCQ Option Shuffling : Yes Display Question Number : Yes
Single Line Question Option : No Option Orientation : Vertical

Correct : 1 Wrong : 0.25

भारत के ऊँची भूमि के डेल्टा क्षेत्र को किस रूप में जाना जाता है?

Options :

✔ चार्स

✖ बिल्स

✖ रेह

✖ थुर

Question Number : 216 Question Id : 16794310823 Question Type : MCQ Option Shuffling : Yes Display Question Number : Yes
Single Line Question Option : No Option Orientation : Vertical

Correct : 1 Wrong : 0.25

The Himalayan region comes in:

Options :

✖ Landslide zone

✖ Earthquake free zone

✔ Frequent earthquake zone

✖ Climate change zone

Question Number : 216 Question Id : 16794310823 Question Type : MCQ Option Shuffling : Yes Display Question Number : Yes
Single Line Question Option : No Option Orientation : Vertical

Correct : 1 Wrong : 0.25

हिमालयन प्रदेश _____ के अंतर्गत आता है।

Options :

✖ भूस्खलन क्षेत्र

✖ भूकंप मुक्त क्षेत्र

✔ बारंबार भूकंप क्षेत्र

✖ जलवायु परिवर्तन क्षेत्र

Question Number : 217 Question Id : 16794310824 Question Type : MCQ Option Shuffling : Yes Display Question Number : Yes
Single Line Question Option : No Option Orientation : Vertical

Correct : 1 Wrong : 0.25

The Shimla hill station is situated in which zone:

Options :

✖ The shivalik ranges

✖ The pir panjal region

✔ The dhauladhar ranges

✖ The shimala ranges

Question Number : 217 Question Id : 16794310824 Question Type : MCQ Option Shuffling : Yes Display Question Number : Yes
Single Line Question Option : No Option Orientation : Vertical

Correct : 1 Wrong : 0.25

शिमला पर्वतीय स्टेशन किस क्षेत्र में स्थित है?

Options :

✖ शिवालिक पर्वतमाला

✖ पिरपंजाल क्षेत्र

✔ धौलाधर पर्वतमाला

✖ शिमला पर्वतमाला

Question Number : 218 Question Id : 16794310825 Question Type : MCQ Option Shuffling : Yes Display Question Number : Yes
Single Line Question Option : No Option Orientation : Vertical

Correct : 1 Wrong : 0.25

The soil that becomes sticky when wet and also develop wide cracks on drying is:

Options :

✖ Laterite

✖ Sandy

✔ Black

✖ Marshy

Question Number : 218 Question Id : 16794310825 Question Type : MCQ Option Shuffling : Yes Display Question Number : Yes
Single Line Question Option : No Option Orientation : Vertical

Correct : 1 Wrong : 0.25

जो मिट्टी गीली होने पर चिपचिपी हो जाती है और सूखने पर उसमें दरारें पड़ने लगती हैं उसे क्या कहते हैं?

Options :

✖ लेटराइट मृदा

✖ सैंडी (बलुई) मृदा

✔ ब्लैक काली मृदा

✖ मार्शी धँसाऊ मृदा

Question Number : 219 Question Id : 16794310826 Question Type : MCQ Option Shuffling : Yes Display Question Number : Yes
Single Line Question Option : No Option Orientation : Vertical

Correct : 1 Wrong : 0.25

The formation of laterite soil majorly happens in:

Options :

✖ In the hilly regions

✔ In the plateau highland region

✖ In the plain areas

✖ In the coastal regions

Question Number : 219 Question Id : 16794310826 Question Type : MCQ Option Shuffling : Yes Display Question Number : Yes
Single Line Question Option : No Option Orientation : Vertical

Correct : 1 Wrong : 0.25

लेटराइट मिट्टी मुख्य रूप से कहाँ बनती है?

Options :

✖ पहाड़ी क्षेत्रों में

✔ पठार वाली ऊँची भूमि के क्षेत्र में

✖ मैदानी क्षेत्रों में

✖ समुद्र तटीय क्षेत्रों में

Question Number : 220 Question Id : 16794310827 Question Type : MCQ Option Shuffling : Yes Display Question Number : Yes
Single Line Question Option : No Option Orientation : Vertical

Correct : 1 Wrong : 0.25

The soil formation in India is mainly affected by:

Options :

✖ Altitude

✔ Climate

✖ Both Altitude and Climate

✖ None of these

Question Number : 220 Question Id : 16794310827 Question Type : MCQ Option Shuffling : Yes Display Question Number : Yes
Single Line Question Option : No Option Orientation : Vertical

Correct : 1 Wrong : 0.25

भारत में मिट्टी का निर्माण किससे प्रभावित होता है?

Options :

✖ ऊँचाई

✔ जलवायु

✖ ऊँचाई और जलवायु दोनों

✖ इनमें से कोई भी नहीं

Subject Related

Group Number :

12

Group Id :

167943323

Group Maximum Duration :

0

Group Minimum Duration :

0

Revisit allowed for view? :

No

Revisit allowed for edit? :

No

Break time:

0

Group Marks:

20

	Subject Related
Section Id :	167943382
Section Number :	1
Section type :	Online
Mandatory or Optional:	Mandatory
Number of Questions:	20
Number of Questions to be attempted:	20
Section Marks:	20
Display Number Panel:	Yes
Group All Questions:	No

Sub-Section Number:	1
Sub-Section Id:	167943675
Question Shuffling Allowed :	Yes

Question Number : 221 Question Id : 16794310828 Question Type : MCQ Option Shuffling : Yes Display Question Number : Yes
Single Line Question Option : No Option Orientation : Vertical
Correct : 1 Wrong : 0.25

The determining factors of Thornwaite classification of climate:

Options :

- ✗ Monthly values of temperature
- ✗ Evaporation rate
- ✗ Precipitation
- ✓ Temperature effectiveness and precipitation effectiveness

Question Number : 221 Question Id : 16794310828 Question Type : MCQ Option Shuffling : Yes Display Question Number : Yes
Single Line Question Option : No Option Orientation : Vertical
Correct : 1 Wrong : 0.25

जलवायु के थोर्नवेट वर्गीकरण के निर्धारक कारक क्या है?

Options :

- ✗ तापमान के मासिक मान
- ✗ भाप की दर
- ✗ वर्षण
- ✓ तापमान प्रभावशीलता और वर्षण प्रभावशीलता

Question Number : 222 Question Id : 16794310829 Question Type : MCQ Option Shuffling : Yes Display Question Number : Yes
Single Line Question Option : No Option Orientation : Vertical

Correct : 1 Wrong : 0.25

Identify the land locked Indian river:

Options :

- ☐ Tapi
- ☐ Cauvery
- ☒ Luni
- ☐ Sabarmati

Question Number : 222 Question Id : 16794310829 Question Type : MCQ Option Shuffling : Yes Display Question Number : Yes
Single Line Question Option : No Option Orientation : Vertical

Correct : 1 Wrong : 0.25

जमींदोज भारतीय नदी की पहचान करें।

Options :

- ☐ तापी
- ☐ कावेरी
- ☒ लूनी
- ☐ साबरमती

Question Number : 223 Question Id : 16794310830 Question Type : MCQ Option Shuffling : Yes Display Question Number : Yes
Single Line Question Option : No Option Orientation : Vertical

Correct : 1 Wrong : 0.25

The shipki la pass is in which state of India?

Options :

- ☐ Uttarakhand
- ☒ Himachal Pradesh
- ☐ Jammu and Kashmir
- ☐ Assam

Question Number : 223 Question Id : 16794310830 Question Type : MCQ Option Shuffling : Yes Display Question Number : Yes
Single Line Question Option : No Option Orientation : Vertical

Correct : 1 Wrong : 0.25

शिपकी ला दर्रा भारत के किस राज्य में है?

Options :

- ✖ उत्तराखंड
- ✔ हिमाचल प्रदेश
- ✖ जम्मू-कश्मीर
- ✖ असम

Question Number : 224 Question Id : 16794310831 Question Type : MCQ Option Shuffling : Yes Display Question Number : Yes
Single Line Question Option : No Option Orientation : Vertical

Correct : 1 Wrong : 0.25

The metamorphic sediments with granitic core is a common feature of:

Options :

- ✔ The Great Himalayas
- ✖ The middle Himalayas
- ✖ The Shivaliks
- ✖ None of the given options

Question Number : 224 Question Id : 16794310831 Question Type : MCQ Option Shuffling : Yes Display Question Number : Yes
Single Line Question Option : No Option Orientation : Vertical

Correct : 1 Wrong : 0.25

ग्रैनिटिक कोर के साथ मेटामोर्फिक (कायांतरित) तलछट किस की एक आम विशेषता है?

Options :

- ✔ महान हिमालय
- ✖ मध्य हिमालय
- ✖ शिवालिक
- ✖ इनमें से कोई भी नहीं

Question Number : 225 Question Id : 16794310832 Question Type : MCQ Option Shuffling : Yes Display Question Number : Yes
Single Line Question Option : No Option Orientation : Vertical

Correct : 1 Wrong : 0.25

Chernozem is used to describe which type of soil?

Options :

✓ Black

✗ Red

✗ Alluvial

✗ Laterite

Question Number : 225 Question Id : 16794310832 Question Type : MCQ Option Shuffling : Yes Display Question Number : Yes
Single Line Question Option : No Option Orientation : Vertical

Correct : 1 Wrong : 0.25

चर्नोजेम किस प्रकार की मिट्टी का वर्णन करने के लिए प्रयोग किया जाता है?

Options :

✓ काली

✗ लाल

✗ जलोढ़

✗ लेटराइट

Question Number : 226 Question Id : 16794310833 Question Type : MCQ Option Shuffling : Yes Display Question Number : Yes
Single Line Question Option : No Option Orientation : Vertical

Correct : 1 Wrong : 0.25

Most of the SAL forest is spread in which part of India?

Options :

✗ Shivaliks in north India

✗ Western part of India

✓ Eastern part of the peninsular India

✗ Coastal plains of India

Question Number : 226 Question Id : 16794310833 Question Type : MCQ Option Shuffling : Yes Display Question Number : Yes
Single Line Question Option : No Option Orientation : Vertical

Correct : 1 Wrong : 0.25

साल वृक्ष का अधिकांश जंगल भारत के किस हिस्से में फैला हुआ है?

Options :

- ✖ उत्तर भारत में शिवालिक में
- ✖ भारत के पश्चिमी भाग में
- ✔ प्रायद्वीप भारत के पूर्वी भाग में
- ✖ भारत के समुद्र तटीय समतल में

Question Number : 227 Question Id : 16794310834 Question Type : MCQ Option Shuffling : Yes Display Question Number : Yes
Single Line Question Option : No Option Orientation : Vertical
Correct : 1 Wrong : 0.25

The Indian climate is of which type?

Options :

- ✖ Tropical savanna
- ✔ Tropical monsoon
- ✖ Tropical grassland
- ✖ All of the given options

Question Number : 227 Question Id : 16794310834 Question Type : MCQ Option Shuffling : Yes Display Question Number : Yes
Single Line Question Option : No Option Orientation : Vertical
Correct : 1 Wrong : 0.25

भारतीय जलवायु किस प्रकार की है?

Options :

- ✖ उष्णकटिबंधीय सवाना
- ✔ उष्णकटिबंधीय मॉनसून
- ✖ उष्णकटिबंधीय घासभूमि
- ✖ दिए गए सभी विकल्प

Question Number : 228 Question Id : 16794310835 Question Type : MCQ Option Shuffling : Yes Display Question Number : Yes
Single Line Question Option : No Option Orientation : Vertical
Correct : 1 Wrong : 0.25

The depression during the months December to February results in scanty rainfall, which helps for:

Options :

- ☒ Rabi crop cultivation
- ☐ Kharif crop cultivation
- ☐ Ground water increase
- ☐ All of the given options

Question Number : 228 Question Id : 16794310835 Question Type : MCQ Option Shuffling : Yes Display Question Number : Yes
Single Line Question Option : No Option Orientation : Vertical

Correct : 1 Wrong : 0.25

दिसंबर से फरवरी के महीनों के दौरान अवसाद (डिप्रेशन) के परिणामस्वरूप कम वर्षा होती है। यह किसमें सहायता करती है?

Options :

- ☒ रबी फसल की खेती
- ☐ खरीफ फसल की खेती
- ☐ भूजल में वृद्धि
- ☐ दिए गए सभी विकल्प

Question Number : 229 Question Id : 16794310836 Question Type : MCQ Option Shuffling : Yes Display Question Number : Yes
Single Line Question Option : No Option Orientation : Vertical

Correct : 1 Wrong : 0.25

The south west monsoon in the Indian subcontinent has:

Options :

- ☐ One branch
- ☒ Two branches
- ☐ Three branches
- ☐ Many branches

Question Number : 229 Question Id : 16794310836 Question Type : MCQ Option Shuffling : Yes Display Question Number : Yes
Single Line Question Option : No Option Orientation : Vertical

Correct : 1 Wrong : 0.25

भारतीय उपमहाद्वीप में दक्षिण पश्चिम मॉनसून कैसा होता है?

Options :

- ✖ एक धारा
- ✔ दो धाराएं
- ✖ तीन धाराएं
- ✖ कई धाराएं

Question Number : 230 Question Id : 16794310837 Question Type : MCQ Option Shuffling : Yes Display Question Number : Yes
Single Line Question Option : No Option Orientation : Vertical

Correct : 1 Wrong : 0.25

Western Rajasthan and parts of Kutch as per Trewartha classification of climate has been typified as _____ climate.

Options :

- ✖ BS type
- ✖ Aw type
- ✔ Bwh type
- ✖ Awh type

Question Number : 230 Question Id : 16794310837 Question Type : MCQ Option Shuffling : Yes Display Question Number : Yes
Single Line Question Option : No Option Orientation : Vertical

Correct : 1 Wrong : 0.25

ट्रिवार्था के जलवायु वर्गीकरण के अनुसार पश्चिमी राजस्थान और कच्छ के हिस्से को जलवायु के किस रूप में चिन्हित किया गया है?

Options :

- ✖ बी. एस. (BS) प्रकार
- ✖ ए. डब्ल्यू. (Aw) प्रकार
- ✔ बी. डब्ल्यू. एच. (Bwh) प्रकार
- ✖ ए. डब्ल्यू. एच. (Awh) प्रकार

Question Number : 231 Question Id : 16794310838 Question Type : MCQ Option Shuffling : Yes Display Question Number : Yes
Single Line Question Option : No Option Orientation : Vertical

Correct : 1 Wrong : 0.25

The northern plains of India have which type of climate?

Options :

✖ Bsw

✖ As

✖ Aw

✔ Cwg

Question Number : 231 Question Id : 16794310838 Question Type : MCQ Option Shuffling : Yes Display Question Number : Yes
Single Line Question Option : No Option Orientation : Vertical

Correct : 1 Wrong : 0.25

भारत के उत्तरी मैदान में किस तरह का जलवायु पाया जाता है?

Options :

✖ Bsw

✖ As

✖ Aw

✔ Cwg

Question Number : 232 Question Id : 16794310839 Question Type : MCQ Option Shuffling : Yes Display Question Number : Yes
Single Line Question Option : No Option Orientation : Vertical

Correct : 1 Wrong : 0.25

Both alpine and temperate vegetation are found in:

Options :

✔ Himalayas

✖ Western Ghats

✖ Eastern Ghats

✖ All of the given options

Question Number : 232 Question Id : 16794310839 Question Type : MCQ Option Shuffling : Yes Display Question Number : Yes
Single Line Question Option : No Option Orientation : Vertical

Correct : 1 Wrong : 0.25

उच्च पर्वतीय अल्पाइन और समशीतोष्ण वनस्पति दोनों कहां पाई जाती हैं?

Options :

✔ हिमालय

✖ पश्चिमी घाट

✖ पूर्वी घाट

✖ सभी: दिए गए विकल्पों में

Question Number : 233 Question Id : 16794310840 Question Type : MCQ Option Shuffling : Yes Display Question Number : Yes
Single Line Question Option : No Option Orientation : Vertical

Correct : 1 Wrong : 0.25

When is the international day for biological diversity?

Options :

✓ 22 May

✖ 22 January

✖ 22 March

✖ 22 June

Question Number : 233 Question Id : 16794310840 Question Type : MCQ Option Shuffling : Yes Display Question Number : Yes
Single Line Question Option : No Option Orientation : Vertical

Correct : 1 Wrong : 0.25

अंतरराष्ट्रीय जैविक विविधता दिवस कब है?

Options :

✓ 22 मई

✖ 22 जनवरी

✖ 22 मार्च

✖ 22 जून

Question Number : 234 Question Id : 16794310841 Question Type : MCQ Option Shuffling : Yes Display Question Number : Yes
Single Line Question Option : No Option Orientation : Vertical

Correct : 1 Wrong : 0.25

A team of botanists has discovered a new species of a flowering plant in the northern hilly forests of West Bengal. It globally comprises about 220 species and is distributed chiefly in the tropical and subtropical regions of Asia and Africa. It is named after the late Indian President A P J Abdul Kalam. Name it.

Options :

✖ Oscimum basclicum

✓ Drypetes kalamii

✗ Oscimum kalamii

✗ Abrus precatorius L.

Question Number : 234 Question Id : 16794310841 Question Type : MCQ Option Shuffling : Yes Display Question Number : Yes
Single Line Question Option : No Option Orientation : Vertical

Correct : 1 Wrong : 0.25

वनस्पतिशास्त्रियों की एक टीम ने पश्चिम बंगाल के उत्तरी पहाड़ी जंगलों में फूलों के एक पौधे की नई प्रजाति की खोज की है। वैश्विक स्तर पर इसकी 220 प्रजातियां हैं और यह मुख्य रूप से एशिया और अफ्रीका के उष्णकटिबंधीय और उपोष्णकटिबंधीय क्षेत्रों में पाया जाता है। इसका नाम भारतीय के स्वर्गीय राष्ट्रपति ए.पी.जे. अब्दुल कलाम के नाम पर रखा गया है। इसका नाम बताएं।

Options :

✗ ऑसीमम बेसिलिकम

✓ ड्राइपेट्स कलामी

✗ ऑसीमम कलामी

✗ एब्रस प्रीकटोरियस एल.

Question Number : 235 Question Id : 16794310842 Question Type : MCQ Option Shuffling : Yes Display Question Number : Yes
Single Line Question Option : No Option Orientation : Vertical

Correct : 1 Wrong : 0.25

Which of the following is not the reason for extinction of wildlife?

Options :

✗ Pollution

✗ Poaching of wildlife

✓ Hybrid varieties

✗ Destruction of habitat

Question Number : 235 Question Id : 16794310842 Question Type : MCQ Option Shuffling : Yes Display Question Number : Yes
Single Line Question Option : No Option Orientation : Vertical

Correct : 1 Wrong : 0.25

वन्यजीव के विलुप्त होने का निम्नलिखित में से कौन एक कारण नहीं है?

Options :

- ✖ प्रदूषण
- ✖ वन्यजीवों का शिकार
- ✓ संकर किस्मे
- ✖ प्राकृतिक वास का विनाश

Question Number : 236 Question Id : 16794310843 Question Type : MCQ Option Shuffling : Yes Display Question Number : Yes
Single Line Question Option : No Option Orientation : Vertical

Correct : 1 Wrong : 0.25

Identify the correct match of Tiger reserve and the state.

Options :

- ✓ Sariska- Rajasthan
- ✖ Corbett- Madhya Pradesh
- ✖ Bandipur - Tamil Nadu
- ✖ Gir- Rajasthan

Question Number : 236 Question Id : 16794310843 Question Type : MCQ Option Shuffling : Yes Display Question Number : Yes
Single Line Question Option : No Option Orientation : Vertical

Correct : 1 Wrong : 0.25

बाघ अभ्यारण्य और राज्य के सही मिलान की पहचान करें।

Options :

- ✓ सरिस्का - राजस्थान
- ✖ कॉर्बेट - मध्यप्रदेश
- ✖ बांदीपुर - तमिलनाडु
- ✖ गीर - राजस्थान

Question Number : 237 Question Id : 16794310844 Question Type : MCQ Option Shuffling : Yes Display Question Number : Yes
Single Line Question Option : No Option Orientation : Vertical

Correct : 1 Wrong : 0.25

Identify the correctly matched pair.

Options :

- ✘ Corbett- rhinoceros
- ✘ Kaziranga- musk deer
- ✘ Gir- elephants
- ✔ Chilika lake- flamingos

Question Number : 237 Question Id : 16794310844 Question Type : MCQ Option Shuffling : Yes Display Question Number : Yes
Single Line Question Option : No Option Orientation : Vertical

Correct : 1 Wrong : 0.25

सही मिलान वाले युग्म की पहचान करें।

Options :

- ✘ कॉर्बेट - गेंडा
- ✘ काजीरंगा - कस्तूरी हिरण
- ✘ गीर - हाथी
- ✔ चिलका झील - फ्लेमिंगो

Question Number : 238 Question Id : 16794310845 Question Type : MCQ Option Shuffling : Yes Display Question Number : Yes
Single Line Question Option : No Option Orientation : Vertical

Correct : 1 Wrong : 0.25

The number of biosphere reserves in India is:

Options :

- ✘ 14
- ✘ 16
- ✔ 18
- ✘ 20

Question Number : 238 Question Id : 16794310845 Question Type : MCQ Option Shuffling : Yes Display Question Number : Yes
Single Line Question Option : No Option Orientation : Vertical

Correct : 1 Wrong : 0.25

भारत में जीवमंडल रिजर्व की संख्या कितनी है?

Options :

✖ 14

✖ 16

✔ 18

✖ 20

Question Number : 239 Question Id : 16794310846 Question Type : MCQ Option Shuffling : Yes Display Question Number : Yes
Single Line Question Option : No Option Orientation : Vertical

Correct : 1 Wrong : 0.25

Number of wildlife sanctuaries in India is:

Options :

✖ 500

✔ 543

✖ 555

✖ 515

Question Number : 239 Question Id : 16794310846 Question Type : MCQ Option Shuffling : Yes Display Question Number : Yes
Single Line Question Option : No Option Orientation : Vertical

Correct : 1 Wrong : 0.25

भारत में वन्यजीव अभ्यारण्यों की संख्या कितनी है?

Options :

✖ 500

✔ 543

✖ 555

✖ 515

Question Number : 240 Question Id : 16794310847 Question Type : MCQ Option Shuffling : Yes Display Question Number : Yes
Single Line Question Option : No Option Orientation : Vertical

Correct : 1 Wrong : 0.25

When there is sudden release of earth's stored energy in upper mantle, which disaster occurs?

Options :

✖ Floods

✔ Earthquake

✘ Volcano

✘ All of the given options

Question Number : 240 Question Id : 16794310847 Question Type : MCQ Option Shuffling : Yes Display Question Number : Yes
Single Line Question Option : No Option Orientation : Vertical

Correct : 1 Wrong : 0.25

जब ऊपरी हिस्से में पृथ्वी की संग्रहित ऊर्जा अचानक मुक्त होती है तो किस तरह की आपदा आती है?

Options :

✘ बाढ़

✔ भूकंप

✘ ज्वालामुखी

✘ दिए गए सभी विकल्प

Subject Related

Group Number :	13
Group Id :	167943324
Group Maximum Duration :	0
Group Minimum Duration :	0
Revisit allowed for view? :	No
Revisit allowed for edit? :	No
Break time:	0
Group Marks:	20

Subject Related

Section Id :	167943383
Section Number :	1
Section type :	Online
Mandatory or Optional:	Mandatory
Number of Questions:	20
Number of Questions to be attempted:	20
Section Marks:	20
Display Number Panel:	Yes
Group All Questions:	No

Sub-Section Number: 1
Sub-Section Id: 167943676
Question Shuffling Allowed : Yes

Question Number : 241 Question Id : 16794310848 Question Type : MCQ Option Shuffling : Yes Display Question Number : Yes
Single Line Question Option : No Option Orientation : Vertical

Correct : 1 Wrong : 0.25

The regions that were affected by Pleistocene glaciation are studded with numerous lakes of varying dimensions, which are called:

Options :

- ☐ Park of lakes
- ☒ Garden of lakes
- ☐ Stars of lakes
- ☐ Conglomerated lakes

Question Number : 241 Question Id : 16794310848 Question Type : MCQ Option Shuffling : Yes Display Question Number : Yes
Single Line Question Option : No Option Orientation : Vertical

Correct : 1 Wrong : 0.25

"परिपूर्ण हिमनद से प्रभावित क्षेत्र" विभिन्न आकार की झीलों से भरे हुए हैं, उन्हें क्या कहा जाता है?

Options :

- ☐ झीलों का पार्क
- ☒ झीलों का बगीचा
- ☐ झीलों के सितारे
- ☐ संगठित झीलों

Question Number : 242 Question Id : 16794310849 Question Type : MCQ Option Shuffling : Yes Display Question Number : Yes
Single Line Question Option : No Option Orientation : Vertical

Correct : 1 Wrong : 0.25

From the following combinations which are correct?

1. Earth Summit, 1992: Rio de Janeiro
2. World Conference on Disaster Management, 1994: Yokohama
3. National Institute of Disaster Management: Hyderabad
4. International centre for Tsunami information: Honalulu

Options :

- ☒ 1,2,4

✖ 1, 2, 3, 4

✖ 1,3,4

✖ 2,4,3

Question Number : 242 Question Id : 16794310849 Question Type : MCQ Option Shuffling : Yes Display Question Number : Yes
Single Line Question Option : No Option Orientation : Vertical

Correct : 1 Wrong : 0.25

निम्नलिखित संयोजनों में से कौन से सही हैं?

1. पृथ्वी शिखर सम्मेलन, 1992: रियो डी जेनेरो
2. आपदा प्रबंधन संबंधी विश्व सम्मेलन, 1994: योकोहामा
3. राष्ट्रीय आपदा प्रबंधन संस्थान: हैदराबाद
4. अंतरराष्ट्रीय केंद्र सुनामी संबंधी जानकारी के लिए: होनलुलु

Options :

✔ 1,2,4

✖ 1, 2, 3, 4

✖ 1,3,4

✖ 2,4,3

Question Number : 243 Question Id : 16794310850 Question Type : MCQ Option Shuffling : Yes Display Question Number : Yes
Single Line Question Option : No Option Orientation : Vertical

Correct : 1 Wrong : 0.25

Reserved forests are forests that are:

Options :

✖ Reserved for humans.

✔ Where hunting and grazing is banned.

✖ Reserved for commercial use and prohibited for animal grazing.

✖ Reserved for medicinal plants.

Question Number : 243 Question Id : 16794310850 Question Type : MCQ Option Shuffling : Yes Display Question Number : Yes
Single Line Question Option : No Option Orientation : Vertical

Correct : 1 Wrong : 0.25

आरक्षित वन वे किस तरह के वन हैं?

Options :

- ☐ मनुष्यों के लिए आरक्षित
- ☒ जहां शिकार करना और मवेशी चराना प्रतिबंधित है
- ☐ वाणिज्यिक उपयोग के लिए आरक्षित और मवेशी चराने के लिए निषिद्ध
- ☐ औषधीय पौधों के लिए आरक्षित हैं

Question Number : 244 Question Id : 16794310851 Question Type : MCQ Option Shuffling : Yes Display Question Number : Yes
Single Line Question Option : No Option Orientation : Vertical

Correct : 1 Wrong : 0.25

The main reason for higher child population is:

Options :

- ☐ High birth rate
- ☐ High death rate
- ☐ Low death rate
- ☒ Both High birth rate and Low death rate

Question Number : 244 Question Id : 16794310851 Question Type : MCQ Option Shuffling : Yes Display Question Number : Yes
Single Line Question Option : No Option Orientation : Vertical

Correct : 1 Wrong : 0.25

बच्चों की अधिक जनसंख्या का मुख्य कारण क्या है?

Options :

- ☐ उच्च जन्म दर
- ☐ उच्च मृत्यु दर
- ☐ कम मृत्यु दर
- ☒ उच्च जन्म दर और कम मृत्यु दर दोनों

Question Number : 245 Question Id : 16794310852 Question Type : MCQ Option Shuffling : Yes Display Question Number : Yes
Single Line Question Option : No Option Orientation : Vertical

Correct : 1 Wrong : 0.25

Regular information on both internal and international migration can be best obtained from:

Options :

- ☒ Population census
- ☐ Unemployment data
- ☐ Passport applicants
- ☐ Migration data

Question Number : 245 Question Id : 16794310852 Question Type : MCQ Option Shuffling : Yes Display Question Number : Yes
Single Line Question Option : No Option Orientation : Vertical

Correct : 1 Wrong : 0.25

राष्ट्रीय और अंतरराष्ट्रीय स्थानान्तरण दोनों के संबंध में सबसे अच्छी नियमित जानकारी कहां से प्राप्त की जा सकती है?

Options :

- ☒ जनसंख्या जनगणना
- ☐ बेरोजगारी डेटा
- ☐ पॉसपोर्ट आवेदक
- ☐ स्थानान्तरण डेटा

Question Number : 246 Question Id : 16794310853 Question Type : MCQ Option Shuffling : Yes Display Question Number : Yes
Single Line Question Option : No Option Orientation : Vertical

Correct : 1 Wrong : 0.25

The major cause of death in India is:

Options :

- ☒ Heart disease
- ☐ Respiratory diseases
- ☐ Accidents
- ☐ Natural calamities

Question Number : 246 Question Id : 16794310853 Question Type : MCQ Option Shuffling : Yes Display Question Number : Yes
Single Line Question Option : No Option Orientation : Vertical

Correct : 1 Wrong : 0.25

भारत में मृत्यु का मुख्य कारण क्या है?

Options :

- ☒ हृदय रोग
- ☐ श्वसन रोग
- ☐ दुर्घटनाएं
- ☐ प्राकृतिक आपदाएं

Question Number : 247 Question Id : 16794310854 Question Type : MCQ Option Shuffling : Yes Display Question Number : Yes
Single Line Question Option : No Option Orientation : Vertical

Correct : 1 Wrong : 0.25

Highest population growth was recorded among which of the following states of India during 1971-81?

Options :

- ☐ Manipur
- ☐ Meghalaya
- ☒ Nagaland
- ☐ Tripura

Question Number : 247 Question Id : 16794310854 Question Type : MCQ Option Shuffling : Yes Display Question Number : Yes
Single Line Question Option : No Option Orientation : Vertical

Correct : 1 Wrong : 0.25

1971-81 के दौरान भारत के किस राज्य में उच्चतम जनसंख्या वृद्धि दर्ज की गई थी?

Options :

- ☐ मणिपुर
- ☐ मेघालय
- ☒ नागालैंड
- ☐ त्रिपुरा

Question Number : 248 Question Id : 16794310855 Question Type : MCQ Option Shuffling : Yes Display Question Number : Yes
Single Line Question Option : No Option Orientation : Vertical

Correct : 1 Wrong : 0.25

The most important factor responsible for threatening the sustainability of the ecosystem is increasing:

Options :

- ☒ Population
- ☐ Industries
- ☐ Urbanization
- ☐ Migration

Question Number : 248 Question Id : 16794310855 Question Type : MCQ Option Shuffling : Yes Display Question Number : Yes
Single Line Question Option : No Option Orientation : Vertical
Correct : 1 Wrong : 0.25

पारिस्थितिकी तंत्र की स्थिरता को खतरा उत्पन्न करने के लिए जिम्मेदार सबसे महत्वपूर्ण कारक बढ़ती _____ है।

Options :

- ☒ जनसंख्या
- ☐ उद्योग
- ☐ शहरीकरण
- ☐ स्थानान्तरण

Question Number : 249 Question Id : 16794310856 Question Type : MCQ Option Shuffling : Yes Display Question Number : Yes
Single Line Question Option : No Option Orientation : Vertical
Correct : 1 Wrong : 0.25

The earliest arrival in India were Negrito. At which of the following places they are found now?

Options :

- ☐ Chhattisgarh
- ☐ Arunachal Pradesh
- ☒ Andaman Islands
- ☐ Kerala

Question Number : 249 Question Id : 16794310856 Question Type : MCQ Option Shuffling : Yes Display Question Number : Yes
Single Line Question Option : No Option Orientation : Vertical
Correct : 1 Wrong : 0.25

भारत में सबसे पहले नेग्रिटो आए थे। वे अब निम्नलिखित में से किन स्थानों पर पाए जाते हैं?

Options :

- ✖ छत्तीसगढ़
- ✖ अरुणाचल प्रदेश
- ✔ अंडमान द्वीप समूह
- ✖ केरल

Question Number : 250 Question Id : 16794310857 Question Type : MCQ Option Shuffling : Yes Display Question Number : Yes
Single Line Question Option : No Option Orientation : Vertical

Correct : 1 Wrong : 0.25

Which of the following is the main occupation of a rural settlement?

Options :

- ✔ Agriculture
- ✖ Hunting
- ✖ Gathering
- ✖ Labour

Question Number : 250 Question Id : 16794310857 Question Type : MCQ Option Shuffling : Yes Display Question Number : Yes
Single Line Question Option : No Option Orientation : Vertical

Correct : 1 Wrong : 0.25

ग्रामीण बस्तियों का मुख्य व्यवसाय निम्नलिखित में से कौन सा है?

Options :

- ✔ कृषि
- ✖ शिकार
- ✖ जमाव (एकत्रण)
- ✖ श्रम

Question Number : 251 Question Id : 16794310858 Question Type : MCQ Option Shuffling : Yes Display Question Number : Yes
Single Line Question Option : No Option Orientation : Vertical

Correct : 1 Wrong : 0.25

What are the six R that are announced by the PM Shri Narendra Modi for sustainable development?

Options :

- ✗ Reduce, Recycle, Regenerate, Reuse, Reissue and Renovate
- ✗ Reorganize, Reduce, Reuse, Recycle, Regenerate and Recover
- ✓ Reduce, Reuse, Recycle, Recover, Redesign and Remanufacture.
- ✗ Reduce, Reuse, Recycle, Renovate, Redo and Redesign.

Question Number : 251 Question Id : 16794310858 Question Type : MCQ Option Shuffling : Yes Display Question Number : Yes
Single Line Question Option : No Option Orientation : Vertical

Correct : 1 Wrong : 0.25

सतत विकास के लिए प्रधानमंत्री श्री नरेंद्र मोदी द्वारा घोषित छह R कौन से हैं?

Options :

- ✗ रिडूस (कम करना), रिसाइकल (पुनःचक्रण करना), रिजनरेट (पुनःसृजन करना), रियूज (पुनः प्रयोग करना), रिइश्यू (पुनः जारी करना) और रेनोवेट (नवीकरण)
- ✗ रिऑर्गनाइज (पुनर्गठन), रिडूस (कम करना), रियूज (पुनः प्रयोग करना), रिसाइकल (पुनःचक्रण करना), रिजनरेट (पुनःसृजन करना) और रिकवर (पुनःप्राप्त करना)
- ✗ रिडूस (कम करना), रियूज (पुनः प्रयोग करना), रिसाइकल (पुनःचक्रण करना), रिकवर (पुनःप्राप्त करना), रिडिजाइन (पुनःडिजाइन करना) और रिमैनुफैक्चर (पुनः निर्माण करना)
- ✓ रिडूस (कम करना), रियूज (पुनः प्रयोग करना), रिसाइकल (पुनःचक्रण करना), रिकवर (पुनःप्राप्त करना), रिडिजाइन (पुनःडिजाइन करना) और रिमैनुफैक्चर (पुनः निर्माण करना)
- ✗ रिडूस (कम करना), रियूज (पुनः प्रयोग करना), रिसाइकल (पुनःचक्रण करना), रेनोवेट (नवीकरण), रिडू (पुनः करना) और रिडिजाइन (पुनः डिजाइन करना)

Question Number : 252 Question Id : 16794310859 Question Type : MCQ Option Shuffling : Yes Display Question Number : Yes
Single Line Question Option : No Option Orientation : Vertical

Correct : 1 Wrong : 0.25

Give the full form of MSDA in the context of India.

Options :

- ✗ Mission for Sustainable Drone Advancement
- ✓ Mission for Sustainable Dryland Agriculture
- ✗ Mission for Space Drone Activity
- ✗ Mission for Sustainable Drought Assessment

Question Number : 252 Question Id : 16794310859 Question Type : MCQ Option Shuffling : Yes Display Question Number : Yes
Single Line Question Option : No Option Orientation : Vertical

Correct : 1 Wrong : 0.25

भारत के संदर्भ में MSDA का पूरा रूप क्या है?

Options :

- ✘ मिशन फॉर सस्टेनेबल ड्रोन एडवांसमेंट
- ✔ मिशन फॉर ड्राईलैंड एग्रीकल्चर
- ✘ मिशन फॉर स्पेस ड्रोन एक्टिविटी
- ✘ मिशन फॉर सस्टेनेबल ड्राॅट असेसमेंट

Question Number : 253 Question Id : 16794310860 Question Type : MCQ Option Shuffling : Yes Display Question Number : Yes
Single Line Question Option : No Option Orientation : Vertical

Correct : 1 Wrong : 0.25

In the year 2017, which tourism board got the award for sustainable tourism at the world tourism conclave in India?

Options :

- ✘ Delhi Tourism Development Board
- ✔ Maharashtra Tourism Development Board
- ✘ Rajasthan Tourism Development Board
- ✘ Kerala Tourism Development Board

Question Number : 253 Question Id : 16794310860 Question Type : MCQ Option Shuffling : Yes Display Question Number : Yes
Single Line Question Option : No Option Orientation : Vertical

Correct : 1 Wrong : 0.25

वर्ष 2017 में, भारत में विश्व पर्यटन कानक्लेव में संवहनीय पर्यटन के लिए किस पर्यटन बोर्ड को पुरस्कार प्राप्त हुआ था?

Options :

- ✘ दिल्ली पर्यटन विकास बोर्ड
- ✔ महाराष्ट्र पर्यटन विकास बोर्ड
- ✘ राजस्थान पर्यटन विकास बोर्ड
- ✘ केरल पर्यटन विकास बोर्ड

Question Number : 254 Question Id : 16794310861 Question Type : MCQ Option Shuffling : Yes Display Question Number : Yes
Single Line Question Option : No Option Orientation : Vertical

Correct : 1 Wrong : 0.25

Urban growth is now happening at a faster rate in:

Options :

- ☐ Western world
- ☒ Tropics
- ☐ Northern countries
- ☐ Coastal nations

Question Number : 254 Question Id : 16794310861 Question Type : MCQ Option Shuffling : Yes Display Question Number : Yes
Single Line Question Option : No Option Orientation : Vertical

Correct : 1 Wrong : 0.25

शहरी विकास अब तेज दर से कहाँ हो रहा है?

Options :

- ☐ पश्चिमी दुनिया
- ☒ उष्णकटिबंधीय
- ☐ उत्तरी देश
- ☐ समुद्र तटीय राष्ट्र

Question Number : 255 Question Id : 16794310862 Question Type : MCQ Option Shuffling : Yes Display Question Number : Yes
Single Line Question Option : No Option Orientation : Vertical

Correct : 1 Wrong : 0.25

The term "Megalopolis" was coined by whom?

Options :

- ☐ Martonne
- ☒ J. Gottman
- ☐ Albert Demangeon
- ☐ H. Hoyt

Question Number : 255 Question Id : 16794310862 Question Type : MCQ Option Shuffling : Yes Display Question Number : Yes
Single Line Question Option : No Option Orientation : Vertical

Correct : 1 Wrong : 0.25

"मेगालोपोलिस" शब्द किसने गढ़ा था?

Options :

- ☐ मार्टोन
- ☒ जे. गोड्डमैन
- ☐ अल्बर्ट डिमेंजियन
- ☐ एच. होयट

Question Number : 256 Question Id : 16794310863 Question Type : MCQ Option Shuffling : Yes Display Question Number : Yes
Single Line Question Option : No Option Orientation : Vertical

Correct : 1 Wrong : 0.25

The most basic factor that determines the level of freight rate is the:

Options :

- ☒ Commodity
- ☐ Distance
- ☐ Travel
- ☐ Mode of transport

Question Number : 256 Question Id : 16794310863 Question Type : MCQ Option Shuffling : Yes Display Question Number : Yes
Single Line Question Option : No Option Orientation : Vertical

Correct : 1 Wrong : 0.25

सबसे बुनियादी कारक जो माल ढुलाई के स्तर की दर को निर्धारित करता है वो क्या है?

Options :

- ☒ वस्तु विनिमय (कमोडिटी)
- ☐ दूरी
- ☐ यात्रा
- ☐ परिवहन का साधन

Question Number : 257 Question Id : 16794310864 Question Type : MCQ Option Shuffling : Yes Display Question Number : Yes
Single Line Question Option : No Option Orientation : Vertical

Correct : 1 Wrong : 0.25

Read the assertion and reason given below:

Assertion (A): Geographers have classified towns on the basis of their site, situation, size, rank, location and relative elevation.

Reason (R): A more useful classification of towns and cities is on the basis of functions they perform. This categorization is also known as the functional classification of towns.

Select the options that is correct.

Options :

- ✗ Both A and R are true, and R is the correct explanation of A.
- ✓ Both A and R are true, and R is not the correct explanation of A.
- ✗ A is true, R is false.
- ✗ A is false, R is true.

Question Number : 257 Question Id : 16794310864 Question Type : MCQ Option Shuffling : Yes Display Question Number : Yes
Single Line Question Option : No Option Orientation : Vertical

Correct : 1 Wrong : 0.25

नीचे दिए गए अभिकथन और कारण को पढ़िए।

अभिकथन (A): भूगोलविदों ने कस्बों को वर्गीकरण उनके स्थल, स्थिति, आकार, श्रेणी, स्थान और सापेक्ष ऊंचाई के आधार पर किया है।

कारण (R): कस्बों और शहरों का एक और अधिक उपयोगी वर्गीकरण उनके द्वारा किए जाने वाले कार्यों के आधार पर होता है। इस वर्गीकरण को कस्बों के कार्यात्मक वर्गीकरण के रूप में भी जाना जाता है।

सही विकल्प को चुने।

Options :

- ✗ A और R दोनों सही हैं, और R A का सही वर्णन है।
- ✓ A और R दोनों सही हैं, और R A का सही वर्णन नहीं है।
- ✗ A सही है, R गलत है।
- ✗ A गलत है, R सही है।

Question Number : 258 Question Id : 16794310865 Question Type : MCQ Option Shuffling : Yes Display Question Number : Yes
Single Line Question Option : No Option Orientation : Vertical

Correct : 1 Wrong : 0.25

The multiple nuclei theory of town planning was given by:

Options :

✖ Burgess

✖ Ullman

✖ C D Harris

✔ Both Ullman and C D Harris

Question Number : 258 Question Id : 16794310865 Question Type : MCQ Option Shuffling : Yes Display Question Number : Yes
Single Line Question Option : No Option Orientation : Vertical

Correct : 1 Wrong : 0.25

शहर नियोजन का एकाधिक केंद्रक सिद्धांत (मल्टीपल न्यूक्लियाई थ्योरी) किसने दिया था?

Options :

✖ बर्गस

✖ उलमान

✖ सी.डी. हैरिस

✔ उलमान और सी.डी. हैरिस दोनों

Question Number : 259 Question Id : 16794310866 Question Type : MCQ Option Shuffling : Yes Display Question Number : Yes
Single Line Question Option : No Option Orientation : Vertical

Correct : 1 Wrong : 0.25

Which of the following resources is/are renewable?

Options :

✖ Coniferous tree

✖ Coal

✖ Cotton

✔ Both Coniferous tree and Cotton

Question Number : 259 Question Id : 16794310866 Question Type : MCQ Option Shuffling : Yes Display Question Number : Yes
Single Line Question Option : No Option Orientation : Vertical

Correct : 1 Wrong : 0.25

निम्नलिखित में से कौन सा/से संसाधन नवीकरणीय है/हैं?

Options :

✖ शंकुधारी पेड़

✖ कोयला

✖ कपास

✔ शंकुधारी पेड़ और कपास दोनों

Question Number : 260 Question Id : 16794310867 Question Type : MCQ Option Shuffling : Yes Display Question Number : Yes
Single Line Question Option : No Option Orientation : Vertical

Correct : 1 Wrong : 0.25

Who gave the major landmark classification of world agriculture into 13 types?

Options :

✖ M. C. Farlane

✔ D. Whittlesey

✖ D. Fryer

✖ D. Grigg

Question Number : 260 Question Id : 16794310867 Question Type : MCQ Option Shuffling : Yes Display Question Number : Yes
Single Line Question Option : No Option Orientation : Vertical

Correct : 1 Wrong : 0.25

विश्व कृषि का 13 प्रकारों में प्रमुख ऐतिहासिक वर्गीकरण किसने किया था?

Options :

✖ एम.सी. फारलेन

✔ डी. विट्टलेसे

✖ डी. फ्रायर

✖ डी ग्रिग

Subject Related

Group Number :

14

Group Id :

167943325

Group Maximum Duration :

0

Group Minimum Duration :

0

Revisit allowed for view? :

No

Revisit allowed for edit? :

No

Break time:

0

Group Marks:

20

	Subject Related
Section Id :	167943384
Section Number :	1
Section type :	Online
Mandatory or Optional:	Mandatory
Number of Questions:	20
Number of Questions to be attempted:	20
Section Marks:	20
Display Number Panel:	Yes
Group All Questions:	No

Sub-Section Number:	1
Sub-Section Id:	167943677
Question Shuffling Allowed :	Yes

Question Number : 261 Question Id : 16794310868 Question Type : MCQ Option Shuffling : Yes Display Question Number : Yes
Single Line Question Option : No Option Orientation : Vertical
Correct : 1 Wrong : 0.25

The leader country in the production of electricity in the world from all sources is:

Options :

- ✗ Iran
- ✓ USA
- ✗ Russia
- ✗ India

Question Number : 261 Question Id : 16794310868 Question Type : MCQ Option Shuffling : Yes Display Question Number : Yes
Single Line Question Option : No Option Orientation : Vertical
Correct : 1 Wrong : 0.25

सभी स्रोतों से दुनिया में बिजली के उत्पादन में अग्रणी देश कौन सा है?

Options :

- ✗ ईरान
- ✓ संयुक्त राज्य अमेरिका
- ✗ रूस
- ✗ भारत

Question Number : 262 Question Id : 16794310869 Question Type : MCQ Option Shuffling : Yes Display Question Number : Yes
Single Line Question Option : No Option Orientation : Vertical

Correct : 1 Wrong : 0.25

The land of cooperatives is known as:

Options :

✘ Brazil

✘ India

✔ Denmark

✘ Cuba

Question Number : 262 Question Id : 16794310869 Question Type : MCQ Option Shuffling : Yes Display Question Number : Yes
Single Line Question Option : No Option Orientation : Vertical

Correct : 1 Wrong : 0.25

किस देश को सहकारी (कोऑपरेटिव) की भूमि के नाम से जाना जाता है?

Options :

✘ ब्राजील

✘ भारत

✔ डेनमार्क

✘ क्यूबा

Question Number : 263 Question Id : 16794310870 Question Type : MCQ Option Shuffling : Yes Display Question Number : Yes
Single Line Question Option : No Option Orientation : Vertical

Correct : 1 Wrong : 0.25

One of the important pre- requisites for resource development is:

Options :

✔ Development of human resource

✘ Development of industries

✘ Development of fertilizers and manure

✘ All of the given options

Question Number : 263 Question Id : 16794310870 Question Type : MCQ Option Shuffling : Yes Display Question Number : Yes
Single Line Question Option : No Option Orientation : Vertical

Correct : 1 Wrong : 0.25

संसाधन विकास के लिए महत्वपूर्ण पूर्वापेक्षाओं में से एक क्या है?

Options :

- ☒ मानव संसाधन का विकास
- ☐ उद्योगों का विकास
- ☐ उर्वरकों और खाद का विकास
- ☐ दिए गए सभी विकल्प

Question Number : 264 Question Id : 16794310871 Question Type : MCQ Option Shuffling : Yes Display Question Number : Yes
Single Line Question Option : No Option Orientation : Vertical

Correct : 1 Wrong : 0.25

The feedback of direct effect of human activity on the environment are positive when:

Options :

- ☐ The feedback lead to reduce change.
- ☒ The feedback lead to increase change.
- ☐ The feedback is unchanged
- ☐ The feedback remains inefficient.

Question Number : 264 Question Id : 16794310871 Question Type : MCQ Option Shuffling : Yes Display Question Number : Yes
Single Line Question Option : No Option Orientation : Vertical

Correct : 1 Wrong : 0.25

पर्यावरण पर मानव गतिविधि के प्रत्यक्ष प्रभाव की प्रतिपुष्टि कब सकारात्मक होती है?

Options :

- ☐ प्रतिपुष्टि बदलाव में कमी करती है
- ☒ प्रतिपुष्टि बदलाव में वृद्धि होती है
- ☐ प्रतिपुष्टि अपरिवर्तित है
- ☐ प्रतिपुष्टि अक्षम रहती है

Question Number : 265 Question Id : 16794310872 Question Type : MCQ Option Shuffling : Yes Display Question Number : Yes
Single Line Question Option : No Option Orientation : Vertical
Correct : 1 Wrong : 0.25

The simplest method for showing the distribution of population is:

Options :

- ☒ Dot method
- ☐ Symbol method
- ☐ Shading methods
- ☐ Picture method

Question Number : 265 Question Id : 16794310872 Question Type : MCQ Option Shuffling : Yes Display Question Number : Yes
Single Line Question Option : No Option Orientation : Vertical
Correct : 1 Wrong : 0.25

जनसंख्या का वितरण दर्शाने की सबसे आसान विधि क्या है?

Options :

- ☒ डॉट विधि
- ☐ प्रतीक विधि
- ☐ छायांकन विधियां
- ☐ चित्र विधि

Question Number : 266 Question Id : 16794310873 Question Type : MCQ Option Shuffling : Yes Display Question Number : Yes
Single Line Question Option : No Option Orientation : Vertical
Correct : 1 Wrong : 0.25

For an aerial photograph, what is the ideal time to click?

Options :

- ☐ Cloudy morning
- ☒ Dry weather
- ☐ Rainy season
- ☐ Cold weather

Question Number : 266 Question Id : 16794310873 Question Type : MCQ Option Shuffling : Yes Display Question Number : Yes
Single Line Question Option : No Option Orientation : Vertical
Correct : 1 Wrong : 0.25

आकाशीय फोटोग्राफ खींचने (क्लिक) का सबसे सही समय कब होता है?

Options :

- ☐ घटा वाली सुबह
- ☒ शुष्क मौसम
- ☐ बरसात का मौसम
- ☐ ठंड का मौसम

Question Number : 267 Question Id : 16794310874 Question Type : MCQ Option Shuffling : Yes Display Question Number : Yes
Single Line Question Option : No Option Orientation : Vertical

Correct : 1 Wrong : 0.25

The RF of half inch to a mile series is:

Options :

- ☐ 1:253, 440
- ☒ 1: 126720
- ☐ 1: 63360
- ☐ 1: 36630

Question Number : 267 Question Id : 16794310874 Question Type : MCQ Option Shuffling : Yes Display Question Number : Yes
Single Line Question Option : No Option Orientation : Vertical

Correct : 1 Wrong : 0.25

आधा इंच से एक मील श्रृंखला के लिए RF क्या होता है?

Options :

- ☐ 1:253, 440
- ☒ 1: 126720
- ☐ 1: 63360
- ☐ 1: 36630

Question Number : 268 Question Id : 16794310875 Question Type : MCQ Option Shuffling : Yes Display Question Number : Yes
Single Line Question Option : No Option Orientation : Vertical

Correct : 1 Wrong : 0.25

Birth defects in babies can be caused by:

Options :

- ☒ Radioactive materials
- ☐ Carbon monoxide
- ☐ Dust
- ☐ Ash

Question Number : 268 Question Id : 16794310875 Question Type : MCQ Option Shuffling : Yes Display Question Number : Yes
Single Line Question Option : No Option Orientation : Vertical

Correct : 1 Wrong : 0.25

बच्चों में जन्मजात दोष किस कारण होते हैं?

Options :

- ☒ रेडियोधर्मी पदार्थ
- ☐ कार्बन मोनोऑक्साइड
- ☐ धूल
- ☐ राख

Question Number : 269 Question Id : 16794310876 Question Type : MCQ Option Shuffling : Yes Display Question Number : Yes
Single Line Question Option : No Option Orientation : Vertical

Correct : 1 Wrong : 0.25

What is currently being known as Marble Cancer that the Taj Mahal is facing?

Options :

- ☐ Yellowing of marble due to soot deposit
- ☒ Acidic rain that can corrode marble
- ☐ Breaking of surface due to excessive heat
- ☐ All of the given options

Question Number : 269 Question Id : 16794310876 Question Type : MCQ Option Shuffling : Yes Display Question Number : Yes
Single Line Question Option : No Option Orientation : Vertical

Correct : 1 Wrong : 0.25

निम्नलिखित में से किसे मार्बल कैंसर के रूप में वर्तमान में संदर्भित किया जा रहा है जिसका सामना ताजमहल को करना पड़ रहा है?

Options :

- ✘ सूट जमा होने के कारण संगमरमर का पीलापन
- ✔ अम्लीय वर्षा जो संगमरमर को संक्षारित कर सकती है
- ✘ अत्यधिक गर्मी के कारण सतह का टूटना
- ✘ दिए गए सभी विकल्प

Question Number : 270 Question Id : 16794310877 Question Type : MCQ Option Shuffling : Yes Display Question Number : Yes
Single Line Question Option : No Option Orientation : Vertical
Correct : 1 Wrong : 0.25

The van Mahotsav is celebrated in which month of the year?

Options :

- ✘ June
- ✔ July
- ✘ December
- ✘ February

Question Number : 270 Question Id : 16794310877 Question Type : MCQ Option Shuffling : Yes Display Question Number : Yes
Single Line Question Option : No Option Orientation : Vertical
Correct : 1 Wrong : 0.25

वन महोत्सव वर्ष के किस महीने में मनाया जाता है?

Options :

- ✘ जून
- ✔ जुलाई
- ✘ दिसंबर
- ✘ फरवरी

Question Number : 271 Question Id : 16794310878 Question Type : MCQ Option Shuffling : Yes Display Question Number : Yes
Single Line Question Option : No Option Orientation : Vertical
Correct : 1 Wrong : 0.25

Greenhouse effect is actually related to:

Options :

- ✖ Green forest cover
- ✖ Green grass
- ✔ Global warming
- ✖ Green grasslands

Question Number : 271 Question Id : 16794310878 Question Type : MCQ Option Shuffling : Yes Display Question Number : Yes
Single Line Question Option : No Option Orientation : Vertical

Correct : 1 Wrong : 0.25

ग्रीनहाउस प्रभाव वास्तव में किससे संबंधित है?

Options :

- ✖ हरित वन आच्छादन
- ✖ हरी घास
- ✔ ग्लोबल वार्मिंग
- ✖ हरी घासभूमि

Question Number : 272 Question Id : 16794310879 Question Type : MCQ Option Shuffling : Yes Display Question Number : Yes
Single Line Question Option : No Option Orientation : Vertical

Correct : 1 Wrong : 0.25

Ozone hole is of biggest size over:

Options :

- ✖ India
- ✔ Antarctica
- ✖ Arctic
- ✖ North Pole

Question Number : 272 Question Id : 16794310879 Question Type : MCQ Option Shuffling : Yes Display Question Number : Yes
Single Line Question Option : No Option Orientation : Vertical

Correct : 1 Wrong : 0.25

ओजोन छेद निम्नलिखित में से किस प्रदेश के ऊपर सबसे बड़ा है?

Options :

- ✖ भारत

✓ अंटार्कटिका

✗ आर्कटिक

✗ उत्तरी ध्रुव

Question Number : 273 Question Id : 16794310880 Question Type : MCQ Option Shuffling : Yes Display Question Number : Yes
Single Line Question Option : No Option Orientation : Vertical

Correct : 1 Wrong : 0.25

The impact of global warming includes:

Options :

✗ Melting of glaciers

✗ Climate change

✗ Rising sea level

✓ All of the given options

Question Number : 273 Question Id : 16794310880 Question Type : MCQ Option Shuffling : Yes Display Question Number : Yes
Single Line Question Option : No Option Orientation : Vertical

Correct : 1 Wrong : 0.25

ग्लोबल वार्मिंग के प्रभाव में निम्नलिखित में से कौन शामिल है?

Options :

✗ हिमनदों का पिघलना

✗ जलवायु परिवर्तन

✗ बढ़ता समुद्र स्तर

✓ दिए गए सभी विकल्प

Question Number : 274 Question Id : 16794310881 Question Type : MCQ Option Shuffling : Yes Display Question Number : Yes
Single Line Question Option : No Option Orientation : Vertical

Correct : 1 Wrong : 0.25

Read the assertion and reason given below.

Assertion (A): It is possible for remote-sensing machines to detect pollution emitted from diesel vehicles plying on the roads.

Reason (R): The remote-sensing machines will be installed on the roads in Delhi for quick emissions screening of on-road fleet and identify high emitters on road. The machine also scans the number plates and owner could be sent notice for emitting pollutant.

Select the option that is correct.

Options :

- ✓ Both A and R are true, and R is the correct explanation of A.
- ✗ Both A and R are true, and R is not the correct explanation of A.
- ✗ A is true, R is false.
- ✗ A is false, R is true.

Question Number : 274 Question Id : 16794310881 Question Type : MCQ Option Shuffling : Yes Display Question Number : Yes
Single Line Question Option : No Option Orientation : Vertical

Correct : 1 Wrong : 0.25

नीचे दिए गए अभिकथन और कारण को पढ़िए।

अभिकथन (A): दूर संवेदी मशीनों के लिए सड़कों पर चलने वाले डीजल वाहनों से उत्सर्जित प्रदूषण का पता लगाना संभव है।

कारण (R): सड़क पर दौड़ते वाहनों के उत्सर्जन की त्वरित जांच करने और सड़क पर उच्च उत्सर्जन की पहचान करने के लिए दूर संवेदी मशीनों को दिल्ली में लगाया जाएगा। मशीन नंबर प्लेटों को भी स्कैन करती है और मालिक को प्रदूषण उत्सर्जित करने के लिए नोटिस भेजा जा सकता है।

सही विकल्प को चुने।

Options :

- ✓ A और R दोनों सही हैं, और R, A का सही वर्णन है।
- ✗ A और R दोनों सही हैं, और R, A का सही वर्णन नहीं है।
- ✗ A सही है, R गलत है।
- ✗ A गलत है, R सही है।

Question Number : 275 Question Id : 16794310882 Question Type : MCQ Option Shuffling : Yes Display Question Number : Yes
Single Line Question Option : No Option Orientation : Vertical

Correct : 1 Wrong : 0.25

The Indian Space Research Organization has already launched 3 important satellites between January 1 and April 12, 2018. identify.

Options :

- ✔ CARTOSAT2, GSAT 6A, IRNSS-1L
- ✘ CARTOSAT3, GSLV3, IRNSS-2L
- ✘ GSAT 11, GSAT 6A, IRNSS-1L
- ✘ RISAT1, IRNSS-2L, CARTOSAT2

Question Number : 275 Question Id : 16794310882 Question Type : MCQ Option Shuffling : Yes Display Question Number : Yes
Single Line Question Option : No Option Orientation : Vertical

Correct : 1 Wrong : 0.25

भारतीय अंतरिक्ष अनुसंधान संगठन (इसरो) 1 जनवरी और 12 अप्रैल, 2018 के बीच पहले ही 3 महत्वपूर्ण उपग्रह लॉन्च (प्रक्षेपित) कर चुका है। उनकी पहचान करें।

Options :

- ✔ CARTOSAT2, GSAT 6A, IRNSS-1L
- ✘ CARTOSAT3, GSLV3, IRNSS-2L
- ✘ GSAT 11, GSAT 6A, IRNSS-1L
- ✘ RISAT1, IRNSS-2L, CARTOSAT2

Question Number : 276 Question Id : 16794310883 Question Type : MCQ Option Shuffling : Yes Display Question Number : Yes
Single Line Question Option : No Option Orientation : Vertical

Correct : 1 Wrong : 0.25

Which of the following is/are the main elements of image characteristics?

Options :

- ✘ Tone/colour
- ✘ Size
- ✘ Texture and pattern
- ✔ All of the given options

Question Number : 276 Question Id : 16794310883 Question Type : MCQ Option Shuffling : Yes Display Question Number : Yes
Single Line Question Option : No Option Orientation : Vertical

Correct : 1 Wrong : 0.25

छवि की विशेषताओं का /के मुख्य तत्व निम्नलिखित में से कौन सा /से हैं?

Options :

- ✗ टोन/रंग
- ✗ आकार
- ✗ टेक्स्चर और पैटर्न
- ✓ दिए गए सभी विकल्प

Question Number : 277 Question Id : 16794310884 Question Type : MCQ Option Shuffling : Yes Display Question Number : Yes
Single Line Question Option : No Option Orientation : Vertical

Correct : 1 Wrong : 0.25

Which of the following are components of GIS?

Options :

- ✗ Data input and verification subsystem
- ✗ Data storage and retrieval subsystem
- ✗ Data manipulation and analysis subsystem
- ✓ All of the given options

Question Number : 277 Question Id : 16794310884 Question Type : MCQ Option Shuffling : Yes Display Question Number : Yes
Single Line Question Option : No Option Orientation : Vertical

Correct : 1 Wrong : 0.25

निम्नलिखित में से कौन से GIS के घटक हैं?

Options :

- ✗ डेटा इनपुट और सत्यापन उपप्रणाली
- ✗ डेटा संग्रहण और पुनर्प्राप्ति उपप्रणाली
- ✗ डेटा हेरफेर और विश्लेषण उपप्रणाली
- ✓ दिए गए सभी विकल्प

Question Number : 278 Question Id : 16794310885 Question Type : MCQ Option Shuffling : Yes Display Question Number : Yes
Single Line Question Option : No Option Orientation : Vertical

Correct : 1 Wrong : 0.25

When taking aerial photo of a flat plain, what shall affect the scale?

Options :

- ☐ Height of the aircraft
- ☐ Focal length of the camera
- ☐ Map of the area
- ☒ Both Height of the aircraft and Focal length of the camera

Question Number : 278 Question Id : 16794310885 Question Type : MCQ Option Shuffling : Yes Display Question Number : Yes
Single Line Question Option : No Option Orientation : Vertical

Correct : 1 Wrong : 0.25

एक सपाट मैदान की आकाशीय तस्वीर लेते समय, पैमाने को कौन सी चीज प्रभावित करेगी?

Options :

- ☐ विमान की ऊँचाई
- ☐ कैमरे की फोकल लम्बाई
- ☐ क्षेत्र का नक्शा
- ☒ विमान की ऊँचाई और कैमरे की फोकल लम्बाई दोनों

Question Number : 279 Question Id : 16794310886 Question Type : MCQ Option Shuffling : Yes Display Question Number : Yes
Single Line Question Option : No Option Orientation : Vertical

Correct : 1 Wrong : 0.25

Which of the following isn't an aerial photo?

Options :

- ☐ UV photos
- ☐ Panchromatic photos
- ☐ Infra-Red/ black and white
- ☒ None of the given options

Question Number : 279 Question Id : 16794310886 Question Type : MCQ Option Shuffling : Yes Display Question Number : Yes
Single Line Question Option : No Option Orientation : Vertical

Correct : 1 Wrong : 0.25

निम्नलिखित में से कौन सी आकाशीय तस्वीर नहीं है?

Options :

- ✖ UV फोटो
- ✖ पंक्रोमैटिक फोटो
- ✖ इन्फ्रा-रेड
- ✔ इनमें से कोई नहीं

Question Number : 280 Question Id : 16794310887 Question Type : MCQ Option Shuffling : Yes Display Question Number : Yes
Single Line Question Option : No Option Orientation : Vertical

Correct : 1 Wrong : 0.25

CHANDRAYAAN 2 will be launched on board of which Geosynchronous Satellite Launch Vehicle?

Options :

- ✖ RLV-TD
- ✔ Mk III (GSLV-F10)
- ✖ GSLV D-5
- ✖ PSLV C-37

Question Number : 280 Question Id : 16794310887 Question Type : MCQ Option Shuffling : Yes Display Question Number : Yes
Single Line Question Option : No Option Orientation : Vertical

Correct : 1 Wrong : 0.25

चंद्रयान 2 को किस भू-तुल्यकालिक उपग्रह प्रक्षेपण वाहन (जिओसिंक्रोनस सैटेलाइट लॉन्च वेहिकल) पर प्रक्षेपित किया जाएगा?

Options :

- ✖ RLV-TD
- ✔ Mk III (GSLV-F10)
- ✖ GSLV D-5
- ✖ PSLV C-37

Subject Related

Group Number :

15

Group Id :	167943326
Group Maximum Duration :	0
Group Minimum Duration :	180
Revisit allowed for view? :	No
Revisit allowed for edit? :	No
Break time:	0
Group Marks:	20

Subject Related

Section Id :	167943385
Section Number :	1
Section type :	Online
Mandatory or Optional:	Mandatory
Number of Questions:	20
Number of Questions to be attempted:	20
Section Marks:	20
Display Number Panel:	Yes
Group All Questions:	No

Sub-Section Number:	1
Sub-Section Id:	167943678
Question Shuffling Allowed :	Yes

Question Number : 281 Question Id : 16794310888 Question Type : MCQ Option Shuffling : Yes Display Question Number : Yes
Single Line Question Option : No Option Orientation : Vertical
Correct : 1 Wrong : 0.25

Choose the correct answer from the options below.

We can see behavior such as forming groups, valuing friends, etc. in adolescents because:

Options :

✖ They like friends

✖ They like forming groups

✔ Loyalty trait is high in this age

✖ They like enjoyment

Question Number : 281 Question Id : 16794310888 Question Type : MCQ Option Shuffling : Yes Display Question Number : Yes
Single Line Question Option : No Option Orientation : Vertical
Correct : 1 Wrong : 0.25

नीचे दिये गए विकल्पों में से सही उत्तर चुनें।

हम किशोरावस्था में समूह बनाने, मित्रों का मूल्यांकन करने आदि जैसे व्यवहार देख सकते हैं क्योंकि:

Options :

- ✖ वे मित्रों को पसंद करते हैं।
- ✖ वे समूह बनाना पसंद करते हैं।
- ✔ इस आयु में निष्ठा का गुण अधिक होता है।
- ✖ वे आनंद पसंद करते हैं।

Question Number : 282 Question Id : 16794310889 Question Type : MCQ Option Shuffling : Yes Display Question Number : Yes
Single Line Question Option : No Option Orientation : Vertical

Correct : 1 Wrong : 0.25

Choose the most appropriate option from the list below.

Education is dependent on social change because:

Options :

- ✔ Philosophy and curriculum change accordingly
- ✖ Society dictates terms for education
- ✖ Teachers come from the society
- ✖ Schools are situated in the society

Question Number : 282 Question Id : 16794310889 Question Type : MCQ Option Shuffling : Yes Display Question Number : Yes
Single Line Question Option : No Option Orientation : Vertical

Correct : 1 Wrong : 0.25

नीचे दी गई सूची में से सर्वाधिक उपयुक्त विकल्प चुनें।

शिक्षा सामाजिक परिवर्तन पर निर्भर है क्योंकि:

Options :

- ✔ दर्शन और पाठ्यक्रम तदनुसार परिवर्तित होते हैं।
- ✖ समाज शिक्षा के लिए शर्तें निर्देशित करता है।
- ✖ शिक्षक समाज से आते हैं।
- ✖ विद्यालय समाज में स्थित हैं।

Question Number : 283 Question Id : 16794310890 Question Type : MCQ Option Shuffling : Yes Display Question Number : Yes
Single Line Question Option : No Option Orientation : Vertical

Correct : 1 Wrong : 0.25

Choose the correct answer from the list given below.

"Learning through interaction leads not only to increased content knowledge but also enhanced thinking skills" is the principle of which one of the following methods?

Options :

- ☐ Experimental method
- ☐ Demonstration method
- ☒ Dialogic method
- ☐ Laboratory method

Question Number : 283 Question Id : 16794310890 Question Type : MCQ Option Shuffling : Yes Display Question Number : Yes
Single Line Question Option : No Option Orientation : Vertical

Correct : 1 Wrong : 0.25

नीचे दी गई सूची में से सही उत्तर चुनें।

"वार्तालाप के माध्यम से ज्ञान-प्राप्ति न केवल वृद्धियुक्त ज्ञान को अग्रसारित करती है बल्कि वृद्धियुक्त सोच कौशल को भी अग्रसारित करती है" निम्नलिखित में से किस एक विधि का सिद्धांत है?

Options :

- ☐ प्रयोगात्मक विधि
- ☐ प्रदर्शन विधि
- ☒ वार्तालाप संबंधी विधि
- ☐ प्रयोगशाला विधि

Question Number : 284 Question Id : 16794310891 Question Type : MCQ Option Shuffling : Yes Display Question Number : Yes
Single Line Question Option : No Option Orientation : Vertical

Correct : 1 Wrong : 0.25

Choose the right option.

In a computer class, if students are asked to chat on the computer as an icebreaker for a new lesson, what role of the computer is the teacher planning to discuss?

Options :

- ☐ Informative role

- ✖ Messaging role
- ✔ Communicative role
- ✖ Interactive role

Question Number : 284 Question Id : 16794310891 Question Type : MCQ Option Shuffling : Yes Display Question Number : Yes
Single Line Question Option : No Option Orientation : Vertical

Correct : 1 Wrong : 0.25

सही विकल्प चुनें।

एक कंप्यूटर कक्षा में, यदि छात्रों को एक नए पाठ के लिए कंप्यूटर पर एक सुगमपूर्वाभ्यास (आइसब्रेकर) के रूप में बात करने (चैट करने) के लिए कहा जाता है, तो शिक्षक कंप्यूटर की किस भूमिका पर चर्चा करने की योजना बना रहा है?

Options :

- ✖ जानकारीपूर्ण भूमिका
- ✖ संदेशात्मक भूमिका
- ✔ संवादात्मक भूमिका
- ✖ परस्पर संवादात्मक भूमिका

Question Number : 285 Question Id : 16794310892 Question Type : MCQ Option Shuffling : Yes Display Question Number : Yes
Single Line Question Option : No Option Orientation : Vertical

Correct : 1 Wrong : 0.25

Choose the correct answer from the options.

Distinctive character of critical reading is that the reader reads to:

Options :

- ✔ Gather facts in order to come to a conclusion
- ✖ Understand the text
- ✖ Criticise the writer
- ✖ Evaluate the text

Question Number : 285 Question Id : 16794310892 Question Type : MCQ Option Shuffling : Yes Display Question Number : Yes
Single Line Question Option : No Option Orientation : Vertical

Correct : 1 Wrong : 0.25

विकल्पों में से सही उत्तर चुनें।

आलोचनात्मक पठन का विशिष्ट स्वरूप यह है कि पाठक _____ के लिए पढ़ता है।

Options :

- ☒ एक निष्कर्ष पर पहुँचने के लिए तथ्यों को एकत्र करने
- ☐ पाठ को समझने
- ☐ लेखक की आलोचना करने
- ☐ पाठ का मूल्यांकन करने

Question Number : 286 Question Id : 16794310893 Question Type : MCQ Option Shuffling : Yes Display Question Number : Yes
Single Line Question Option : No Option Orientation : Vertical
Correct : 1 Wrong : 0.25

Choose the right option to fill in the blank.

The branch of linguistics that studies the structure of words is:

Options :

- ☐ Syntax
- ☒ Morphology
- ☐ Phonetics
- ☐ Semantics

Question Number : 286 Question Id : 16794310893 Question Type : MCQ Option Shuffling : Yes Display Question Number : Yes
Single Line Question Option : No Option Orientation : Vertical
Correct : 1 Wrong : 0.25

रिक्त स्थान की पूर्ति के लिए सही विकल्प का चयन करें।

भाषाविज्ञान की शाखा जो शब्दों की संरचना का अध्ययन करती है, वह _____ कहलाती है।

Options :

- ☐ वाक्य-विन्यास
- ☒ आकृति विज्ञान

✖ स्वर-विज्ञान

✖ अर्थ विज्ञान

Question Number : 287 Question Id : 16794310894 Question Type : MCQ Option Shuffling : Yes Display Question Number : Yes
Single Line Question Option : No Option Orientation : Vertical

Correct : 1 Wrong : 0.25

Choose the most appropriate option.

A common example of stereotypical ways of representing gender in mass media is:

Options :

✖ Newspapers

✖ Radio

✔ Television advertisements

✖ Pamphlets

Question Number : 287 Question Id : 16794310894 Question Type : MCQ Option Shuffling : Yes Display Question Number : Yes
Single Line Question Option : No Option Orientation : Vertical

Correct : 1 Wrong : 0.25

सर्वाधिक उपयुक्त विकल्प चुनें।

जनसंपर्क माध्यम (मास मीडिया) में लिंग का प्रतिनिधित्व करने की पारंपरिक रीतियों का एक सामान्य उदाहरण _____ है।

Options :

✖ समाचार पत्र

✖ रेडियो

✔ टेलीविज़न के विज्ञापन

✖ प्रचार पुस्तिकाएँ

Question Number : 288 Question Id : 16794310895 Question Type : MCQ Option Shuffling : Yes Display Question Number : Yes
Single Line Question Option : No Option Orientation : Vertical

Correct : 1 Wrong : 0.25

Choose the best option.

Analytical method of teaching mathematics is about moving from:

Options :

- ☒ Unknown to known
- ☐ Known to unknown
- ☐ Simple to complex
- ☐ Whole to part

Question Number : 288 Question Id : 16794310895 Question Type : MCQ Option Shuffling : Yes Display Question Number : Yes
Single Line Question Option : No Option Orientation : Vertical

Correct : 1 Wrong : 0.25

सर्वश्रेष्ठ विकल्प चुनें।

गणित पढ़ाने की विश्लेषणात्मक विधि _____ की ओर बढ़ने के बारे में है।

Options :

- ☒ अज्ञात से ज्ञात
- ☐ ज्ञात से अज्ञात
- ☐ सरल से जटिल
- ☐ सम्पूर्ण से खंड

Question Number : 289 Question Id : 16794310896 Question Type : MCQ Option Shuffling : Yes Display Question Number : Yes
Single Line Question Option : No Option Orientation : Vertical

Correct : 1 Wrong : 0.25

Choose the right option from those given below.

The right sequence in the 7 E's learning cycle is:

Options :

- ☐ Elicit, Engage, Extend, Explain, Elaborate, Evaluate, Explore
- ☒ Elicit, Engage, Explore, Explain, Elaborate, Evaluate, Extend
- ☐ Engage, Explore, Elaborate, Evaluate, Extend, Elicit, Explain
- ☐ Explain, Explore, Elicit, Engage, Elaborate, Extend, Evaluate

Question Number : 289 Question Id : 16794310896 Question Type : MCQ Option Shuffling : Yes Display Question Number : Yes
Single Line Question Option : No Option Orientation : Vertical
Correct : 1 Wrong : 0.25

नीचे दिये गए विकल्पों में से सही विकल्प चुनें।

सात E के ज्ञान-प्राप्ति चक्र में सही अनुक्रम _____ है।

Options :

- ✖ प्राप्त करना, संलग्न करना, विस्तार करना, वर्णन करना, विस्तृत करना, मूल्यांकन करना, खोजना
- ✔ प्राप्त करना, संलग्न करना, खोजना, वर्णन करना, विस्तृत करना, मूल्यांकन करना, विस्तार करना
- ✖ संलग्न करना, खोजना, विस्तृत करना, मूल्यांकन करना, विस्तार करना, प्राप्त करना, वर्णन करना
- ✖ वर्णन करना, खोजना, प्राप्त करना, संलग्न करना, विस्तृत करना, विस्तार करना, मूल्यांकन करना

Question Number : 290 Question Id : 16794310897 Question Type : MCQ Option Shuffling : Yes Display Question Number : Yes
Single Line Question Option : No Option Orientation : Vertical
Correct : 1 Wrong : 0.25

Which of the following is not related to the concept of reflecting on texts?

Options :

- ✖ Field visits
- ✖ Audio visual material
- ✖ Reports
- ✔ Documentation

Question Number : 290 Question Id : 16794310897 Question Type : MCQ Option Shuffling : Yes Display Question Number : Yes
Single Line Question Option : No Option Orientation : Vertical
Correct : 1 Wrong : 0.25

निम्नलिखित में से क्या पाठों के प्रति प्रतिबिंबित करने की अवधारणा से संबंधित नहीं है?

Options :

- ✖ कार्यक्षेत्र निरीक्षण (फील्ड विज़िट)
- ✖ दृश्य-श्रव्य सामग्री (ऑडियो-विज़ुअल मटेरियल)
- ✖ विवरण (रिपोर्ट्स)

✓ प्रलेखन (डॉक्यूमेंटेशन)

Question Number : 291 Question Id : 16794310898 Question Type : MCQ Option Shuffling : Yes Display Question Number : Yes
Single Line Question Option : No Option Orientation : Vertical

Correct : 1 Wrong : 0.25

Choose the most appropriate response.

An important life skill that students develop when art forms are integrated with subjects is:

Options :

✓ Recognising others' efforts and appreciating their work

✗ Helping others in completing their work

✗ Helping the teacher organise the activity

✗ Helping the teacher plan for the activity

Question Number : 291 Question Id : 16794310898 Question Type : MCQ Option Shuffling : Yes Display Question Number : Yes
Single Line Question Option : No Option Orientation : Vertical

Correct : 1 Wrong : 0.25

सर्वाधिक उपयुक्त अनुक्रिया चुनें।

जब कला रूपों को विषयों के साथ एकीकृत किया जाता है तो एक महत्वपूर्ण जीवन कौशल, जो छात्र विकसित करते हैं _____ कहलाता है।

Options :

✓ दूसरों के प्रयासों को पहचानना और उनके कार्य की सराहना करना

✗ दूसरों की, उनका कार्य पूर्ण करने में सहायता करना

✗ कार्यकलाप व्यवस्थित करने में शिक्षक की सहायता करना

✗ कार्यकलाप की योजना बनाने में शिक्षक की सहायता करना

Question Number : 292 Question Id : 16794310899 Question Type : MCQ Option Shuffling : Yes Display Question Number : Yes
Single Line Question Option : No Option Orientation : Vertical

Correct : 1 Wrong : 0.25

When a scene in a story is improvised in a drama, at what cognitive level are the children operating?

Options :

✗ Analysis

✖ Synthesis

✔ Evaluation

✖ Comprehension

Question Number : 292 Question Id : 16794310899 Question Type : MCQ Option Shuffling : Yes Display Question Number : Yes
Single Line Question Option : No Option Orientation : Vertical

Correct : 1 Wrong : 0.25

एक नाटक में जब एक कहानी में आशु रचना (इम्प्रोवाइज्ड) की जाती है, तो बच्चे किस संज्ञानात्मक स्तर पर काम कर रहे होते हैं?

Options :

✖ विश्लेषण

✖ संश्लेषण

✔ मूल्यांकन

✖ बोध/समझ

Question Number : 293 Question Id : 16794310900 Question Type : MCQ Option Shuffling : Yes Display Question Number : Yes
Single Line Question Option : No Option Orientation : Vertical

Correct : 1 Wrong : 0.25

Choose the appropriate option.

The initial step for individualised instruction is:

Options :

✖ Making unit plans

✖ Planning for the lesson

✖ Preparing material

✔ Identifying individual differences of pupils

Question Number : 293 Question Id : 16794310900 Question Type : MCQ Option Shuffling : Yes Display Question Number : Yes
Single Line Question Option : No Option Orientation : Vertical

Correct : 1 Wrong : 0.25

उपयुक्त विकल्प चुनें।

व्यक्तिगत निर्देश के लिए प्रारंभिक चरण _____ होता है।

Options :

- ✘ इकाई योजना बनाना
- ✘ पाठ के लिए योजना बनाना
- ✘ सामग्री तैयार करना
- ✔ विद्यार्थियों के व्यक्तिगत मतभेदों की पहचान करना

Question Number : 294 Question Id : 16794310901 Question Type : MCQ Option Shuffling : Yes Display Question Number : Yes
Single Line Question Option : No Option Orientation : Vertical

Correct : 1 Wrong : 0.25

Choose the right option.

Which technology tool can a teacher use to communicate synchronously with the students?

Options :

- ✘ Blog
- ✘ Chat
- ✔ Video conferencing
- ✘ Email

Question Number : 294 Question Id : 16794310901 Question Type : MCQ Option Shuffling : Yes Display Question Number : Yes
Single Line Question Option : No Option Orientation : Vertical

Correct : 1 Wrong : 0.25

सही विकल्प चुनें।

विद्यार्थियों के साथ समकालिक रूप से संवाद करने के लिए एक शिक्षक किस प्रौद्योगिकी उपकरण का प्रयोग कर सकता है?

Options :

- ✘ ब्लॉग
- ✘ चैट

✓ वीडियो कॉन्फ्रेंसिंग

✗ ईमेल

Question Number : 295 Question Id : 16794310902 Question Type : MCQ Option Shuffling : Yes Display Question Number : Yes
Single Line Question Option : No Option Orientation : Vertical

Correct : 1 Wrong : 0.25

Choose the right response from the options given below.

Non-formal education is characterised by:

Options :

✓ Lack of any age limit

✗ Lack of structured curriculum

✗ Lack of emphasis on learning

✗ Being exam oriented

Question Number : 295 Question Id : 16794310902 Question Type : MCQ Option Shuffling : Yes Display Question Number : Yes
Single Line Question Option : No Option Orientation : Vertical

Correct : 1 Wrong : 0.25

नीचे दिये गए विकल्पों में से सही अनुक्रिया चुनें।

गैर-औपचारिक शिक्षा की विशेषता क्या होती है?

Options :

✓ किसी भी आयु सीमा की कमी

✗ संरचित पाठ्यक्रम की कमी

✗ ज्ञान-प्राप्ति पर बल देने की कमी

✗ परीक्षोन्मुख होना

Question Number : 296 Question Id : 16794310903 Question Type : MCQ Option Shuffling : Yes Display Question Number : Yes
Single Line Question Option : No Option Orientation : Vertical

Correct : 1 Wrong : 0.25

Choose the right option from the list below.

The statistical terms Mean, Median and Mode are known as:

Options :

- ☐ Sampling methods
- ☒ Measures of central tendency
- ☐ Measures of deviation
- ☐ Measures of variation

Question Number : 296 Question Id : 16794310903 Question Type : MCQ Option Shuffling : Yes Display Question Number : Yes
Single Line Question Option : No Option Orientation : Vertical

Correct : 1 Wrong : 0.25

नीचे दी गई सूची में से सही विकल्प चुनें।

सांख्यिकीय पद माध्य (मीन), माध्यिका (मीडियन) और बहुलक (मोड) _____ के रूप में जाने जाते हैं।

Options :

- ☐ नमूनाकरण विधियों
- ☒ केंद्रीय प्रवृत्ति के उपायों
- ☐ विचलन के उपायों
- ☐ भिन्नता के उपायों

Question Number : 297 Question Id : 16794310904 Question Type : MCQ Option Shuffling : Yes Display Question Number : Yes
Single Line Question Option : No Option Orientation : Vertical

Correct : 1 Wrong : 0.25

Choose from the option below.

A teacher recorded the following marks (out of 100) in English for 20 students:

75, 54, 66, 58, 66, 43, 48, 78, 55, 81, 32, 76, 69, 58, 54, 65, 45, 72, 71, 74

Calculate the Median.

Options :

- ☐ 64.5

✓ 65.5

✗ 66.5

✗ 67.5

Question Number : 297 Question Id : 16794310904 Question Type : MCQ Option Shuffling : Yes Display Question Number : Yes
Single Line Question Option : No Option Orientation : Vertical

Correct : 1 Wrong : 0.25

नीचे दिये गए विकल्पों में से चुनें।

एक शिक्षक ने 20 छात्रों के अंग्रेज़ी में निम्नलिखित अंक (100 में से) अभिलिखित किए:

75, 54, 66, 58, 66, 43, 48, 78, 55, 81, 32, 76, 69, 58, 54, 65, 45, 72, 71, 74

माध्यिका (मीडियन) की गणना करें।

Options :

✗ 64.5

✓ 65.5

✗ 66.5

✗ 67.5

Question Number : 298 Question Id : 16794310905 Question Type : MCQ Option Shuffling : Yes Display Question Number : Yes
Single Line Question Option : No Option Orientation : Vertical

Correct : 1 Wrong : 0.25

Select the proper sequence of the stages in the Kolb's cycle from the given options.

Reflective observations (RO) Active experimentation (AE) Abstract conceptualisation (AC) Concrete experience (CE)

Options :

✗ AE, RO, AC, CE

✗ CE, AO, AC, AE

✓ CE, RO, AC, AE

✗ RO, AC, AE, CE

Question Number : 298 Question Id : 16794310905 Question Type : MCQ Option Shuffling : Yes Display Question Number : Yes
Single Line Question Option : No Option Orientation : Vertical

Correct : 1 Wrong : 0.25

दिये गए विकल्पों में से कोल्ब चक्र में चरणों के उचित अनुक्रम का चयन करें।

प्रतिबिंबित अवलोकन (RO) सक्रिय प्रयोग (AE) सार अवधारणा (AC) यथार्थपूर्ण अनुभव (CE)

Options :

- ✗ AE, RO, AC, CE
- ✗ CE, AO, AC, AE
- ✓ CE, RO, AC, AE
- ✗ RO, AC, AE, CE

Question Number : 299 Question Id : 16794310906 Question Type : MCQ Option Shuffling : Yes Display Question Number : Yes
Single Line Question Option : No Option Orientation : Vertical

Correct : 1 Wrong : 0.25

Choose the right option from the given options.

“Omissions” is type of:

Options :

- ✓ Speech impairment
- ✗ Hearing impairment
- ✗ Visual impairment
- ✗ Physical disability

Question Number : 299 Question Id : 16794310906 Question Type : MCQ Option Shuffling : Yes Display Question Number : Yes
Single Line Question Option : No Option Orientation : Vertical

Correct : 1 Wrong : 0.25

दिये गए विकल्पों में से सही विकल्प चुनें।

"लोपन" (ओमिशन) _____ का प्रकार है।

Options :

- ✓ वाक् क्षीणता
- ✗ श्रवण क्षीणता
- ✗ दृष्टि क्षीणता

✖ शारीरिक विकलांगता/दिव्यांगता

Question Number : 300 Question Id : 16794310907 Question Type : MCQ Option Shuffling : Yes Display Question Number : Yes
Single Line Question Option : No Option Orientation : Vertical

Correct : 1 Wrong : 0.25

Choose the correct answer from the list below.

One of the appropriate teaching methods for the mentally challenged is:

Options :

✖ Use of rigid practice regimes

✔ Teaching concepts in relevant contexts

✖ Regular use of rewards and punishments

✖ Allowing them to do as they please

Question Number : 300 Question Id : 16794310907 Question Type : MCQ Option Shuffling : Yes Display Question Number : Yes
Single Line Question Option : No Option Orientation : Vertical

Correct : 1 Wrong : 0.25

नीचे दी गई सूची में से सही उत्तर चुनें।

निम्नलिखित में से कौनसा मानसिक रूप से क्षीण (दिव्यांग) लोगों के लिए उपयुक्त शिक्षण विधियों में से एक है?

Options :

✖ कठोर अभ्यास पथ्यापथ्य नियमों का प्रयोग करना

✔ प्रासंगिक संदर्भों में शिक्षण अवधारणाएँ

✖ पुरस्कारों और दंडों का नियमित प्रयोग

✖ उन्हें वह करने देना जिसमें वे प्रसन्न रहें