

Question Paper Preview

Notations :

- 1.Options shown in green color and with ✓ icon are correct.
- 2.Options shown in red color and with ✗ icon are incorrect.

Question Paper Name:	PGT FINE ARTS FEMALE 27th Aug 2018
Subject Name:	PGT FINE ARTS FEMALE
Creation Date:	2018-08-27 13:27:18
Duration:	180
Total Marks:	300
Display Marks:	Yes
Share Answer Key With Delivery Engine:	Yes
Actual Answer Key:	Yes
Calculator:	None
Magnifying Glass Required?:	No
Ruler Required?:	No
Eraser Required?:	No
Scratch Pad Required?:	No
Rough Sketch/Notepad Required?:	No
Protractor Required?:	No

Group Number :	1
Group Id :	723053121
Group Maximum Duration :	0
Group Minimum Duration :	0
Revisit allowed for view? :	No
Revisit allowed for edit? :	No
Break time:	0
Group Marks:	20

Mental Ability

	Mental Ability
Section Id :	723053121
Section Number :	1
Section type :	Online
Mandatory or Optional:	Mandatory
Number of Questions:	20
Number of Questions to be attempted:	20
Section Marks:	20
Display Number Panel:	Yes
Group All Questions:	No

Test Prime

**ALL EXAMS,
ONE SUBSCRIPTION**



70,000+
Mock Tests



**Personalised
Report Card**



**Unlimited
Re-Attempt**



600+
Exam Covered



**Previous Year
Papers**



**500%
Refund**



ATTEMPT FREE MOCK NOW

Sub-Section Id: 723053167
Question Shuffling Allowed : Yes

Question Number : 1 Question Id : 7230532453 Question Type : MCQ Option Shuffling : Yes Display Question Number : Yes
Single Line Question Option : No Option Orientation : Vertical
Correct : 1 Wrong : 0.25

Choose the correct alternative for the following.

Chisel : Carve : : Binocular : _____

Options :

✗ Mirror

✓ View

✗ Star

✗ Hear

Question Number : 1 Question Id : 7230532453 Question Type : MCQ Option Shuffling : Yes Display Question Number : Yes
Single Line Question Option : No Option Orientation : Vertical
Correct : 1 Wrong : 0.25

निम्नलिखित के लिए सही विकल्प चुनें।

छेनी : काटना : : दूरबीन : _____

Options :

✗ आईना

✓ देखना

✗ तारा

✗ सुनना

Question Number : 2 Question Id : 7230532454 Question Type : MCQ Option Shuffling : Yes Display Question Number : Yes
Single Line Question Option : No Option Orientation : Vertical
Correct : 1 Wrong : 0.25

Mala walks a distance of 3 km towards north, then turns to her left and walks for 2 km. She again turns left and walks for 3 km. At this point she turns to her left and walks for 3 km. How many kilometers is she from the starting point?

Options :

✓ 1 km

✗ 1.5 km

✖ 2 km

✖ 4 km

Question Number : 2 Question Id : 7230532454 Question Type : MCQ Option Shuffling : Yes Display Question Number : Yes
Single Line Question Option : No Option Orientation : Vertical

Correct : 1 Wrong : 0.25

माला उत्तर की तरफ 3 किमी की दूरी तक चलती है, फिर उसके बाएं ओर जाती है और 2 किमी तक चलती है। वह फिर से बायीं ओर मुड़ती है और 3 किमी तक चलती है। इस बिंदु पर वह अपने बाएं ओर मुड़ती है और 3 किमी तक चलती है। शुरुआती बिंदु से वह कितनी किलोमीटर दूर है?

Options :

✔ 1 किमी

✖ 1.5 किमी

✖ 2 किमी

✖ 4 किमी

Question Number : 3 Question Id : 7230532455 Question Type : MCQ Option Shuffling : Yes Display Question Number : Yes
Single Line Question Option : No Option Orientation : Vertical

Correct : 1 Wrong : 0.25

Find the missing number from the following.

3	9	13
8	12	15
121	?	784

Options :

✖ 325

✖ 414

✔ 441

✖ 500

Question Number : 3 Question Id : 7230532455 Question Type : MCQ Option Shuffling : Yes Display Question Number : Yes
Single Line Question Option : No Option Orientation : Vertical

Correct : 1 Wrong : 0.25

निम्नलिखित से लापता संख्या का पता लगाएं

3	9	13
8	12	15
121	?	784

Options :

✗ 325

✗ 414

✓ 441

✗ 500

Question Number : 4 Question Id : 7230532456 Question Type : MCQ Option Shuffling : Yes Display Question Number : Yes
Single Line Question Option : No Option Orientation : Vertical

Correct : 1 Wrong : 0.25

In a college, $\frac{1}{3}$ of the students are boys, $\frac{1}{2}$ of the boys are athletes and $\frac{1}{3}$ of the athletes have two wheeler. If $\frac{3}{4}$ of the girls are athletes and $\frac{2}{3}$ of the athletic girls have two wheelers, what part of the students are without two wheeler?

Options :

✗ $\frac{8}{13}$

✗ $\frac{10}{13}$

✗ $\frac{11}{13}$

✓ $\frac{11}{18}$

Question Number : 4 Question Id : 7230532456 Question Type : MCQ Option Shuffling : Yes Display Question Number : Yes
Single Line Question Option : No Option Orientation : Vertical

Correct : 1 Wrong : 0.25

एक कॉलेज में, $\frac{1}{3}$ छात्र लड़के हैं, लड़कों में से $\frac{1}{2}$ एथलीट हैं और एथलीटों में $\frac{1}{3}$ के पास दुपहिया गाड़ी हैं। अगर $\frac{3}{4}$ लड़कियां एथलीट हैं और एथलेटिक लड़कियों में से $\frac{2}{3}$ के पास दुपहिया गाड़ी हैं, तो छात्रों का कौन सा हिस्सा दुपहिया गाड़ी के बिना है?

Options :

✗ $\frac{8}{13}$

✗ $\frac{10}{13}$

✗ $\frac{11}{13}$

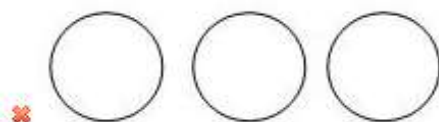
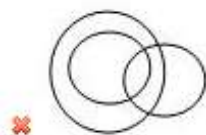
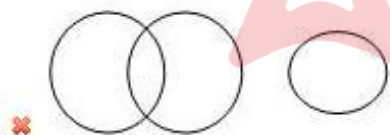
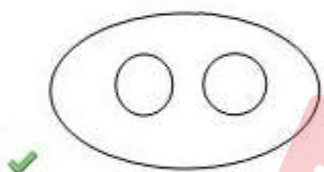
✓ $\frac{11}{18}$

Question Number : 5 Question Id : 7230532457 Question Type : MCQ Option Shuffling : Yes Display Question Number : Yes
Single Line Question Option : No Option Orientation : Vertical

Correct : 1 Wrong : 0.25

Which of the following diagrams correctly represent Karnataka, Kerala, India?

Options :

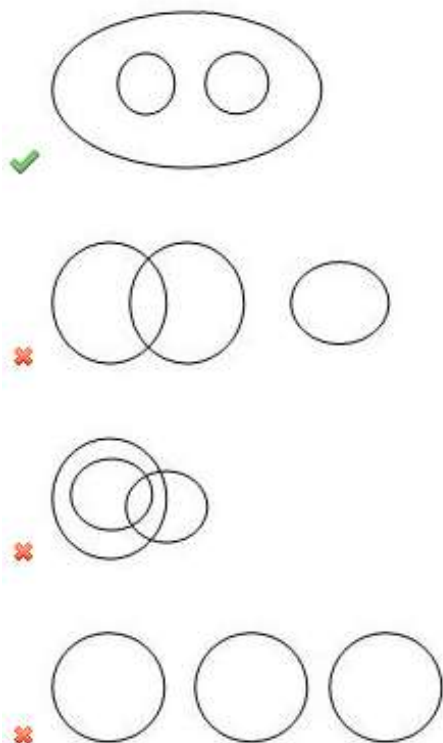


Question Number : 5 Question Id : 7230532457 Question Type : MCQ Option Shuffling : Yes Display Question Number : Yes
Single Line Question Option : No Option Orientation : Vertical

Correct : 1 Wrong : 0.25

निम्नलिखित में से कौन सा चित्र सही ढंग से कर्नाटक, केरल, भारत का प्रतिनिधित्व करता है?

Options :



Question Number : 6 Question Id : 7230532458 Question Type : MCQ Option Shuffling : Yes Display Question Number : Yes
Single Line Question Option : No Option Orientation : Vertical

Correct : 1 Wrong : 0.25

In a certain language PREMIER is coded as QTHQNKY, which word would be coded as VEHICLE?

Options :

- ☐ WGKNHRL
- ☐ WGKHMRL
- ☐ WGKHNRL
- ☒ WGKMHRL

Question Number : 6 Question Id : 7230532458 Question Type : MCQ Option Shuffling : Yes Display Question Number : Yes
Single Line Question Option : No Option Orientation : Vertical

Correct : 1 Wrong : 0.25

एक निश्चित भाषा में PREMIER को QTHQNKY के रूप में कोडित किया जाता है, तो VEHICLE के लिए निम्नलिखित में से कौन सा शब्द कोड होगा?

Options :

- ☐ WGKNHRL
- ☐ WGKHMRL

✘ WGKHNRL

✔ WGKMHL

Question Number : 7 Question Id : 7230532459 Question Type : MCQ Option Shuffling : Yes Display Question Number : Yes
Single Line Question Option : No Option Orientation : Vertical

Correct : 1 Wrong : 0.25

You are given two statements and two conclusions. Choose the comment about conclusion from the given options below.

Statements:

- I. Businessmen marry only intelligent girls.
- II. Deepa is very intelligent.

Conclusions:

- I. Deepa will marry a Businessman.
- II. Deepa will not marry a Businessman.

Options :

- ✘ Only conclusion I follows
- ✘ Only conclusion II follows
- ✔ Either conclusion I or II follows
- ✘ Neither conclusion I nor II follows

Question Number : 7 Question Id : 7230532459 Question Type : MCQ Option Shuffling : Yes Display Question Number : Yes
Single Line Question Option : No Option Orientation : Vertical

Correct : 1 Wrong : 0.25

आपको दो बयान और दो निष्कर्ष दिए गए हैं। नीचे दिए गए विकल्पों से निष्कर्ष के बारे में टिप्पणी चुनें।
बयान:

- I. व्यवसायी केवल बुद्धिमान लड़कियों से शादी करते हैं।
- II. दीपा बहुत बुद्धिमान है।

निष्कर्ष:

- I. दीपा एक व्यवसायी से शादी करेगी
- II. दीपा एक व्यवसायी से शादी नहीं करेगी

Options :

- ✘ केवल निष्कर्ष I का पालन करता है

- ✖ केवल निष्कर्ष ॥ का पालन करता है
- ✔ या तो निष्कर्ष । या ॥ पालन करता है
- ✖ न तो निष्कर्ष । और न ही ॥ का पालन करता है

Question Number : 8 Question Id : 7230532460 Question Type : MCQ Option Shuffling : Yes Display Question Number : Yes
Single Line Question Option : No Option Orientation : Vertical

Correct : 1 Wrong : 0.25

Varun said to Nandhini, "Your mother's husband's only sister is my aunt". How is Nandhini related to Varun?

Options :

- ✖ Aunt
- ✔ Sister
- ✖ Mother
- ✖ Wife

Question Number : 8 Question Id : 7230532460 Question Type : MCQ Option Shuffling : Yes Display Question Number : Yes
Single Line Question Option : No Option Orientation : Vertical

Correct : 1 Wrong : 0.25

वरुण ने नंदिनी से कहा, "आपकी मां के पति की एकमात्र बहन मेरी चाची है"। नंदिनी वरुण से कैसे संबंधित है?

Options :

- ✖ चाची
- ✔ बहन
- ✖ मां
- ✖ पत्नी

Question Number : 9 Question Id : 7230532461 Question Type : MCQ Option Shuffling : Yes Display Question Number : Yes
Single Line Question Option : No Option Orientation : Vertical

Correct : 1 Wrong : 0.25

In the following question, there are two statements labeled as Assertion (A) and Reason (R). Choose the correct alternative.

Assertion (A): U.P. is called the sugar bowl of India.

Reason (R): U.P. is the leading producer of sugarcane.

Options :

- ✖ A is true but R is false
- ✖ A is false but R is true
- ✔ Both A and R are true and R is the correct explanation of A
- ✖ Both A and R are true and R is not the correct explanation of A

Question Number : 9 Question Id : 7230532461 Question Type : MCQ Option Shuffling : Yes Display Question Number : Yes
Single Line Question Option : No Option Orientation : Vertical

Correct : 1 Wrong : 0.25

निम्नलिखित प्रश्न में, दावा (A) और कारण (R) के रूप में लेबल किए गए दो बयान हैं। सही विकल्प चुनें।

दावा (A): उत्तर प्रदेश को भारत का चीनी कटोरा कहा जाता है।

कारण (R): उत्तर प्रदेश गन्ना का अग्रणी उत्पादक है।

Options :

- ✖ A सत्य है लेकिन R असत्य है
- ✖ A असत्य है लेकिन R सत्य है
- ✔ A और R दोनों सत्य हैं और R की सही व्याख्या A है
- ✖ A और R दोनों सत्य हैं और R की सही व्याख्या A नहीं है

Question Number : 10 Question Id : 7230532462 Question Type : MCQ Option Shuffling : Yes Display Question Number : Yes
Single Line Question Option : No Option Orientation : Vertical

Correct : 1 Wrong : 0.25

Select the option that is related to the third term in the same way as the second term is related to the first term.

8 : 81 :: 14 : _____

Options :

- ✖ 169
- ✖ 196
- ✖ 125
- ✔ 225

Question Number : 10 Question Id : 7230532462 Question Type : MCQ Option Shuffling : Yes Display Question Number : Yes
Single Line Question Option : No Option Orientation : Vertical

Correct : 1 Wrong : 0.25

उस विकल्प का चयन करें जो उसी तरह से तीसरे पद से संबंधित हो, जैसा कि दूसरा पद पहले पद से संबंधित है।

8 : 81 :: 14 : _____.

Options :

✖ 169

✖ 196

✖ 125

✔ 225

Question Number : 11 Question Id : 7230532463 Question Type : MCQ Option Shuffling : Yes Display Question Number : Yes
Single Line Question Option : No Option Orientation : Vertical

Correct : 1 Wrong : 0.25

If 'nurse' is called 'doctor', 'doctor' is called 'engineer', 'engineer' is called 'teacher', 'teacher' is called 'advocate' and 'advocate' is called 'judge', who will teach in a classroom?

Options :

✔ advocate

✖ teacher

✖ engineer

✖ doctor

Question Number : 11 Question Id : 7230532463 Question Type : MCQ Option Shuffling : Yes Display Question Number : Yes
Single Line Question Option : No Option Orientation : Vertical

Correct : 1 Wrong : 0.25

अगर 'नर्स' को 'डॉक्टर' कहा जाता है, 'डॉक्टर' को 'इंजीनियर' कहा जाता है, 'इंजीनियर' को 'शिक्षक' कहा जाता है, 'शिक्षक' को 'वकील' कहा जाता है और 'वकील' को 'न्यायाधीश' कहा जाता है, तो कक्षा में कौन पढ़ाएगा?

Options :

✔ वकील

✖ शिक्षक

✖ इंजीनियर

✖ डॉक्टर

Question Number : 12 Question Id : 7230532464 Question Type : MCQ Option Shuffling : Yes Display Question Number : Yes
Single Line Question Option : No Option Orientation : Vertical

Correct : 1 Wrong : 0.25

Read the following information carefully and answer the question given below.

Karthi is older than Sudhakar;
Mukesh is elder than Karthi but younger than Kiruba;
Kiruba is elder than Sudhakar;
Sudhakar is younger than Mukesh;

Who is the youngest?

Options :

✖ Mukesh

✖ Kiruba

✔ Sudhakar

✖ Karthi

Question Number : 12 Question Id : 7230532464 Question Type : MCQ Option Shuffling : Yes Display Question Number : Yes
Single Line Question Option : No Option Orientation : Vertical

Correct : 1 Wrong : 0.25

निम्नलिखित जानकारी सावधानीपूर्वक पढ़ें और नीचे दिए गए प्रश्न का उत्तर दें:

सुधाकर की तुलना में कार्ति बड़ी है;
मुकेश कार्ति से बड़ा है लेकिन किरुबा से छोटा है;
सुधाकर से किरुबा बड़ा है;
मुकेश की तुलना में सुधाकर छोटा है;

सबसे छोटा कौन है?

Options :

✖ मुकेश

✖ किरुबा

✔ सुधाकर

✖ कार्ति

Question Number : 13 Question Id : 7230532465 Question Type : MCQ Option Shuffling : Yes Display Question Number : Yes
Single Line Question Option : No Option Orientation : Vertical

Correct : 1 Wrong : 0.25

If the letters of the word AGRICULTURE can be used as many times as one wants to use, then which one of the following words CANNOT be formed?

Options :

✗ LECTURE

✓ RUBBER

✗ TIGER

✗ RICE

Question Number : 13 Question Id : 7230532465 Question Type : MCQ Option Shuffling : Yes Display Question Number : Yes
Single Line Question Option : No Option Orientation : Vertical

Correct : 1 Wrong : 0.25

यदि शब्द AGRICULTURE के अक्षरों का उपयोग कई बार किया जा सकता है जैसा कि कोई उपयोग करना चाहता है, तो निम्न में से कौन सा शब्द नहीं बनाया जा सकता है?

Options :

✗ LECTURE

✓ RUBBER

✗ TIGER

✗ RICE

Question Number : 14 Question Id : 7230532466 Question Type : MCQ Option Shuffling : Yes Display Question Number : Yes
Single Line Question Option : No Option Orientation : Vertical

Correct : 1 Wrong : 0.25

Read the following information carefully and answer the question given below.

Seven friends P, Q, R, S, T, U and V are sitting around a circular table;
S is not neighbor of R and T;
P is neighbor of Q and R;
V, who is second to the left of S, is the neighbor of T and U;

Which of the following is wrong?

Options :

✗ U is between V and S.

✗ A is to the immediate right of Q.

✗ T is between V and R.

✓ Q is to the immediate left of S.

Question Number : 14 Question Id : 7230532466 Question Type : MCQ Option Shuffling : Yes Display Question Number : Yes
Single Line Question Option : No Option Orientation : Vertical

Correct : 1 Wrong : 0.25

निम्नलिखित जानकारी सावधानीपूर्वक पढ़ें और नीचे दिए गए प्रश्न का उत्तर दें:

सात दोस्तों P, Q, R, S, T, U और V एक परिपत्र तालिका के आसपास बैठे हैं;
S, R और T के पड़ोसी नहीं हैं;
P, Q और R के पड़ोसी हैं;
V, जो S के बाईं ओर दूसरा है, T और U का पड़ोसी है;

निम्नलिखित में से कौन सा गलत है?

Options :

- ✗ U, V और S के बीच है।
- ✗ A, Q के तत्काल दाहिने ओर है।
- ✗ T, V और R के बीच है।
- ✓ Q, S के तत्काल बाईं ओर है।

Question Number : 15 Question Id : 7230532467 Question Type : MCQ Option Shuffling : Yes Display Question Number : Yes
Single Line Question Option : No Option Orientation : Vertical

Correct : 1 Wrong : 0.25

Find the missing term.

2, 5, 10, 17, 26, 37, _____, 65, 82

Options :

- ✗ 48
- ✗ 49
- ✓ 50
- ✗ 51

Question Number : 15 Question Id : 7230532467 Question Type : MCQ Option Shuffling : Yes Display Question Number : Yes
Single Line Question Option : No Option Orientation : Vertical

Correct : 1 Wrong : 0.25

लापता संख्या खोजें:

2, 5, 10, 17, 26, 37, _____, 65, 82

Options :

✖ 48

✖ 49

✔ 50

✖ 51

Question Number : 16 Question Id : 7230532468 Question Type : MCQ Option Shuffling : Yes Display Question Number : Yes
Single Line Question Option : No Option Orientation : Vertical

Correct : 1 Wrong : 0.25

Read the following information carefully and answer the question given below.

'@' for 'greater than';

'*' for 'less than';

'#' for 'not equal to';

'S' for 'equal to';

'%' for 'not greater than';

'&' for 'not less than';

If 'X @ Y * Z', it follows that:

Options :

✔ X & Y % Z

✖ X S Z * Y

✖ Z % Y & X

✖ Y & X @ Z

Question Number : 16 Question Id : 7230532468 Question Type : MCQ Option Shuffling : Yes Display Question Number : Yes
Single Line Question Option : No Option Orientation : Vertical

Correct : 1 Wrong : 0.25

निम्नलिखित जानकारी सावधानीपूर्वक पढ़ें और नीचे दिए गए प्रश्न का उत्तर दें:

- '@' 'से अधिक' के लिए;
- '*' 'से भी कम' के लिए;
- '#' 'बराबर नहीं' के लिए;
- '\$' 'बराबर' के लिए;
- '%' 'से अधिक नहीं' के लिए;
- '&' 'से कम' नहीं के लिए;

यदि 'X @ Y * Z', है, तो यह उसके बाद आता है:

- Options :
- ☒ X & Y % Z
 - ☐ X \$ Z * Y
 - ☐ Z % Y & X
 - ☐ Y & X @ Z

Question Number : 17 Question Id : 7230532469 Question Type : MCQ Option Shuffling : Yes Display Question Number : Yes
Single Line Question Option : No Option Orientation : Vertical
Correct : 1 Wrong : 0.25

Find the missing character from the following.

AbC	DeF	GhI
MnO	PqR	StU
?	LmN	OpQ

- Options :
- ☐ HiJ
 - ☐ iJk
 - ☐ Ijk
 - ☒ IjK

Question Number : 17 Question Id : 7230532469 Question Type : MCQ Option Shuffling : Yes Display Question Number : Yes
Single Line Question Option : No Option Orientation : Vertical
Correct : 1 Wrong : 0.25

निम्नलिखित से गायब चरित्र ढूँढें:

AbC	DeF	GhI
MnO	PqR	StU
?	LmN	OpQ

Options :

☐ HiJ

☐ iJk

☐ ljk

☒ lJk

Question Number : 18 Question Id : 7230532470 Question Type : MCQ Option Shuffling : Yes Display Question Number : Yes
Single Line Question Option : No Option Orientation : Vertical
Correct : 1 Wrong : 0.25

If 25th of November in a year is Thursday, the number of Mondays in that month is _____.

Options :

☐ 3

☐ 4

☒ 5

☐ 6

Question Number : 18 Question Id : 7230532470 Question Type : MCQ Option Shuffling : Yes Display Question Number : Yes
Single Line Question Option : No Option Orientation : Vertical
Correct : 1 Wrong : 0.25

यदि 25 नवंबर एक वर्ष में गुरुवार है, तो उस महीने में सोमवार की संख्या है _____।

Options :

☐ 3

☐ 4

✓ 5

✗ 6

Question Number : 19 Question Id : 7230532471 Question Type : MCQ Option Shuffling : Yes Display Question Number : Yes
Single Line Question Option : No Option Orientation : Vertical

Correct : 1 Wrong : 0.25

You are given two statements and four conclusions. Choose the comment about conclusion from the given options below.

Statements:

- I. Some chairs are pillows.
- II. No pillow is flower.

Conclusions:

- I. No chair is a flower.
- II. Some chairs are not flowers.
- III. Some pillows are chairs.
- IV. No pillow is a chair.

Options :

- ✗ Only conclusion I follows
- ✗ Only conclusion II follows
- ✓ Only conclusions II and III follow
- ✗ Either conclusion I or IV follows

Question Number : 19 Question Id : 7230532471 Question Type : MCQ Option Shuffling : Yes Display Question Number : Yes
Single Line Question Option : No Option Orientation : Vertical

Correct : 1 Wrong : 0.25

आपको दो बयान और चार निष्कर्ष दिए गए हैं। नीचे दिए गए विकल्पों से निष्कर्ष के बारे में टिप्पणी चुनें:

कथन:

- I. कुछ कुर्सियां तकिए हैं।
- II. कोई तकिया फूल नहीं है।

निष्कर्ष:

- I. कोई कुर्सी फूल नहीं है।
- II. कुछ कुर्सियां फूल नहीं हैं।
- III. कुछ तकिए कुर्सियां हैं।
- IV. कोई तकिया कुर्सी नहीं है।

Options :

- ✖ केवल निष्कर्ष I का पालन करता है
- ✖ केवल निष्कर्ष II का पालन करता है
- ✔ केवल निष्कर्ष II और III का पालन करता है
- ✖ या तो निष्कर्ष I या IV का पालन करता है

Question Number : 20 Question Id : 7230532472 Question Type : MCQ Option Shuffling : Yes Display Question Number : Yes
Single Line Question Option : No Option Orientation : Vertical

Correct : 1 Wrong : 0.25

Find the odd one out.

Options :

- ✖ Reporter
- ✖ Publisher
- ✔ Computer
- ✖ Writer

Question Number : 20 Question Id : 7230532472 Question Type : MCQ Option Shuffling : Yes Display Question Number : Yes
Single Line Question Option : No Option Orientation : Vertical

Correct : 1 Wrong : 0.25

अलग को पहचानें:

Options :

- ✖ संवाद-दाता
- ✖ प्रकाशक
- ✔ कम्प्यूटर
- ✖ लेखक

General Awareness

Group Number :	2
Group Id :	723053122
Group Maximum Duration :	0
Group Minimum Duration :	0

Revisit allowed for view? : No
Revisit allowed for edit? : No
Break time: 0
Group Marks: 20

General Awareness

Section Id : 723053122
Section Number : 1
Section type : Online
Mandatory or Optional: Mandatory
Number of Questions: 20
Number of Questions to be attempted: 20
Section Marks: 20
Display Number Panel: Yes
Group All Questions: No

Sub-Section Number: 1
Sub-Section Id: 723053168
Question Shuffling Allowed : Yes

Question Number : 21 Question Id : 7230532473 Question Type : MCQ Option Shuffling : Yes Display Question Number : Yes
Single Line Question Option : No Option Orientation : Vertical
Correct : 1 Wrong : 0.25

Whose services among the following are well known for the upliftment of Izhavas in Kerala?

Options :

- ☒ Narayana Guru
- ☐ Swami Dayanand Saraswati
- ☐ Swami Vivekananda
- ☐ Raja Rammohan Roy

Question Number : 21 Question Id : 7230532473 Question Type : MCQ Option Shuffling : Yes Display Question Number : Yes
Single Line Question Option : No Option Orientation : Vertical
Correct : 1 Wrong : 0.25

केरल में एझावा के उत्थान के लिए निम्नलिखित में से किसके कार्यो को जाना जाता है?

Options :

- ☒ नारायण गुरु के
- ☐ स्वामी दयानंद सरस्वती के

✖ स्वामी विवेकानंद के

✖ राजा राममोहन राय के

Question Number : 22 Question Id : 7230532474 Question Type : MCQ Option Shuffling : Yes Display Question Number : Yes
Single Line Question Option : No Option Orientation : Vertical

Correct : 1 Wrong : 0.25

India's freedom fighter Bhagat Singh was hanged to death in the _____ on the 23 March 1931.

Options :

✓ Lahore Central Jail

✖ Yerwada Central Jail, Pune

✖ Andaman Cellular Jail

✖ Alipore Central Jail, Bengal

Question Number : 22 Question Id : 7230532474 Question Type : MCQ Option Shuffling : Yes Display Question Number : Yes
Single Line Question Option : No Option Orientation : Vertical

Correct : 1 Wrong : 0.25

23 मार्च 1931 को भारत के स्वतंत्रता सेनानी भगत सिंह को _____ में फांसी दी गई थी।

Options :

✓ लाहौर सेंट्रल जेल

✖ येरवदा सेंट्रल जेल, पुणे

✖ अंडमान सेलुलर जेल

✖ अलीपुर सेंट्रल जेल, बंगाल

Question Number : 23 Question Id : 7230532475 Question Type : MCQ Option Shuffling : Yes Display Question Number : Yes
Single Line Question Option : No Option Orientation : Vertical

Correct : 1 Wrong : 0.25

In India, National Voter's Day is celebrated on _____ every year.

Options :

✓ 25th January

✖ 26th January

✖ 23th January

✖ 28th January

Question Number : 23 Question Id : 7230532475 Question Type : MCQ Option Shuffling : Yes Display Question Number : Yes
Single Line Question Option : No Option Orientation : Vertical

Correct : 1 Wrong : 0.25

भारत में, राष्ट्रीय मतदाता दिवस प्रत्येक वर्ष _____ को मनाया जाता है।

Options :

✔ 25 जनवरी

✖ 26 जनवरी

✖ 23 जनवरी

✖ 28 जनवरी

Question Number : 24 Question Id : 7230532476 Question Type : MCQ Option Shuffling : Yes Display Question Number : Yes
Single Line Question Option : No Option Orientation : Vertical

Correct : 1 Wrong : 0.25

As per the Model Code of Conduct for the guidance of political parties and candidates in India, holding public meetings during the period of _____ ending with the hour fixed for the close of the poll should be avoided.

Options :

✔ 48 hours

✖ 36 hours

✖ 24 hours

✖ 18 hours

Question Number : 24 Question Id : 7230532476 Question Type : MCQ Option Shuffling : Yes Display Question Number : Yes
Single Line Question Option : No Option Orientation : Vertical

Correct : 1 Wrong : 0.25

भारत में राजनीतिक दलों और उम्मीदवारों के मार्गदर्शन के लिए आचार संहिता के अनुसार, चुनाव से पहले निर्धारित किये गए समय के अनुसार _____ की अवधि के दौरान सार्वजनिक बैठकें नहीं करनी चाहिए।

Options :

✔ 48 घंटे

✖ 36 घंटे

✖ 24 घंटे

✖ 18 घंटे

Question Number : 25 Question Id : 7230532477 Question Type : MCQ Option Shuffling : Yes Display Question Number : Yes
Single Line Question Option : No Option Orientation : Vertical

Correct : 1 Wrong : 0.25

The Preamble of the Constitution of India solemnly resolves to secure to all its citizens.

- A) Employment
- B) Justice
- C) Fraternity
- D) Liberty

Which of these is NOT correct option?

Options :

✔ A

✖ B

✖ C

✖ D

Question Number : 25 Question Id : 7230532477 Question Type : MCQ Option Shuffling : Yes Display Question Number : Yes
Single Line Question Option : No Option Orientation : Vertical

Correct : 1 Wrong : 0.25

भारत के संविधान की प्रस्तावना अपने सभी नागरिकों को निम्नलिखित प्रदान करने का संकल्प करती है।

- (A) रोज़गार
- (B) न्याय
- (C) भाईचारा
- (D) अधिकार

इनमें से कौन सा विकल्प सही नहीं है?

Options :

✔ A

✖ B

✖ C

✖ D

Question Number : 26 Question Id : 7230532478 Question Type : MCQ Option Shuffling : Yes Display Question Number : Yes
Single Line Question Option : No Option Orientation : Vertical

Correct : 1 Wrong : 0.25

The Constitution of India envisages up to _____ members to represent the Union Territories in the Lok Sabha.

Options :

✔ 20

✖ 22

✖ 18

✖ 24

Question Number : 26 Question Id : 7230532478 Question Type : MCQ Option Shuffling : Yes Display Question Number : Yes
Single Line Question Option : No Option Orientation : Vertical

Correct : 1 Wrong : 0.25

भारत के संविधान में लोकसभा में केंद्र शासित प्रदेशों का प्रतिनिधित्व करने के लिए _____ सदस्यों तक की परिकल्पना की गई है।

Options :

✔ 20

✖ 22

✖ 18

✖ 24

Question Number : 27 Question Id : 7230532479 Question Type : MCQ Option Shuffling : Yes Display Question Number : Yes
Single Line Question Option : No Option Orientation : Vertical

Correct : 1 Wrong : 0.25

SAI stands for 'Sports _____ of India'.

Options :

✔ Authority

✖ Association

✖ Academy

✖ Administration

Question Number : 27 Question Id : 7230532479 Question Type : MCQ Option Shuffling : Yes Display Question Number : Yes
Single Line Question Option : No Option Orientation : Vertical

Correct : 1 Wrong : 0.25

एस.ए.आई. (SAI) का पूर्ण रूप 'स्पोर्ट्स _____ ऑफ़ इंडिया' है।

Options :

✓ अथॉरिटी

✖ एसोसिएशन

✖ एकाडेमी

✖ एडमिनिस्ट्रेशन

Question Number : 28 Question Id : 7230532480 Question Type : MCQ Option Shuffling : Yes Display Question Number : Yes
Single Line Question Option : No Option Orientation : Vertical

Correct : 1 Wrong : 0.25

The correct order of the top 4 rankings of the football teams of the 2018 FIFA World Cup was:

Options :

✓ France, Croatia, Belgium, England

✖ Croatia, France, Belgium, England

✖ France, Belgium, Croatia, England

✖ Belgium, France, England, Croatia

Question Number : 28 Question Id : 7230532480 Question Type : MCQ Option Shuffling : Yes Display Question Number : Yes
Single Line Question Option : No Option Orientation : Vertical

Correct : 1 Wrong : 0.25

2018 फीफा विश्व कप की फुटबॉल टीमों की शीर्ष 4 श्रेणियों (रैंकिंग्स) का सही क्रम क्या था?

Options :

✓ फ्रांस, क्रोएशिया, बेल्जियम, इंग्लैंड

✖ क्रोएशिया, फ्रांस, बेल्जियम, इंग्लैंड

✖ फ्रांस, बेल्जियम, क्रोएशिया, इंग्लैंड

✖ बेल्जियम, फ्रांस, इंग्लैंड, क्रोएशिया

Question Number : 29 Question Id : 7230532481 Question Type : MCQ Option Shuffling : Yes Display Question Number : Yes
Single Line Question Option : No Option Orientation : Vertical

Correct : 1 Wrong : 0.25

_____ is NOT a script.

Options :

✔ Sanskrit

✖ Grantha

✖ Gupta

✖ Indus

Question Number : 29 Question Id : 7230532481 Question Type : MCQ Option Shuffling : Yes Display Question Number : Yes
Single Line Question Option : No Option Orientation : Vertical

Correct : 1 Wrong : 0.25

_____ एक लिपि नहीं है।

Options :

✔ संस्कृत

✖ ग्रंथ

✖ गुप्त

✖ सिंधु

Question Number : 30 Question Id : 7230532482 Question Type : MCQ Option Shuffling : Yes Display Question Number : Yes
Single Line Question Option : No Option Orientation : Vertical

Correct : 1 Wrong : 0.25

Fill in the blank with the most appropriate answer option.

_____ is the one who writes a scientific description of people, their culture and customs.

Options :

✔ Ethnographer

✖ Reporter

✖ Anthropologist

✖ Lexicographer

Question Number : 30 Question Id : 7230532482 Question Type : MCQ Option Shuffling : Yes Display Question Number : Yes
Single Line Question Option : No Option Orientation : Vertical

Correct : 1 Wrong : 0.25

सर्वाधिक उपयुक्त उत्तर विकल्प के साथ रिक्त स्थान की पूर्ति करें।

_____ वह व्यक्ति है जो लोगों, उनकी संस्कृति और रीति-रिवाजों का वैज्ञानिक विवरण लिखता है।

Options :

✓ नृवंश विवरणकार (एथनोग्राफर)

✖ संवाद-दाता (रिपोर्टर)

✖ मानव विज्ञानी (एन्थ्रोपॉलॉजिस्ट)

✖ कोशकार (लेक्सिकोग्राफर)

Question Number : 31 Question Id : 7230532483 Question Type : MCQ Option Shuffling : Yes Display Question Number : Yes
Single Line Question Option : No Option Orientation : Vertical

Correct : 1 Wrong : 0.25

The Brahmaputra originates in the _____.

Options :

✓ Mansarovar lake region

✖ Gangotri glacier

✖ Yamunotri glacier

✖ Kailash range

Question Number : 31 Question Id : 7230532483 Question Type : MCQ Option Shuffling : Yes Display Question Number : Yes
Single Line Question Option : No Option Orientation : Vertical

Correct : 1 Wrong : 0.25

ब्रह्मपुत्र का उद्गम _____ से होता है।

Options :

✓ मानसरोवर झील के क्षेत्र

- ✖ गंगोत्री हिमनद (ग्लेशियर)
- ✖ यमुनोत्री हिमनद (ग्लेशियर)
- ✖ कैलाश श्रृंखला (रेंज)

Question Number : 32 Question Id : 7230532484 Question Type : MCQ Option Shuffling : Yes Display Question Number : Yes
Single Line Question Option : No Option Orientation : Vertical

Correct : 1 Wrong : 0.25

In the solar system, in order of distance from the Sun, the second and third planets are a) _____ and b) _____ respectively.

Options :

- ✔ a) Venus ; b) Earth
- ✖ a) Jupiter ; b) Mars
- ✖ a) Jupiter ; b) Earth
- ✖ a) Mars ; b) Jupiter

Question Number : 32 Question Id : 7230532484 Question Type : MCQ Option Shuffling : Yes Display Question Number : Yes
Single Line Question Option : No Option Orientation : Vertical

Correct : 1 Wrong : 0.25

सौर मंडल में, सूर्य से दूरी के क्रम में, दूसरे और तीसरे ग्रह क्रमशः ए) _____ और बी) _____ हैं।

Options :

- ✔ ए) शुक्र ; बी) पृथ्वी
- ✖ ए) बृहस्पति ; बी) मंगल
- ✖ ए) बृहस्पति ; बी) पृथ्वी
- ✖ ए) मंगल ; बी) बृहस्पति

Question Number : 33 Question Id : 7230532485 Question Type : MCQ Option Shuffling : Yes Display Question Number : Yes
Single Line Question Option : No Option Orientation : Vertical

Correct : 1 Wrong : 0.25

What is NOT true with reference to CIBIL score?

Options :

✓ The higher the score, the lower are the chances of getting a loan approved

✗ Lenders use it for sanctioning a loan

✗ It is a three digit number

✗ The higher the score, the higher are the chances of getting a loan approved

Question Number : 33 Question Id : 7230532485 Question Type : MCQ Option Shuffling : Yes Display Question Number : Yes
Single Line Question Option : No Option Orientation : Vertical

Correct : 1 Wrong : 0.25

सिबिल (CIBIL) स्कोर के संदर्भ में क्या सत्य नहीं है?

Options :

✓ स्कोर जितना अधिक होगा, ऋण स्वीकृत होने की संभावना उतनी ही कम होगी

✗ ऋणदाता इसे ऋण की स्वीकृति के लिए प्रयोग करते हैं

✗ यह तीन अंकों की एक संख्या है

✗ स्कोर जितना अधिक होगा, ऋण स्वीकृत होने की संभावना उतनी ही अधिक होगी

Question Number : 34 Question Id : 7230532486 Question Type : MCQ Option Shuffling : Yes Display Question Number : Yes
Single Line Question Option : No Option Orientation : Vertical

Correct : 1 Wrong : 0.25

The motif of Konark Sun Temple is printed on the reverse of the newly designed _____ currency note issued by the Reserve Bank of India.

Options :

✓ ₹ 10

✗ ₹ 50

✗ ₹ 200

✗ ₹ 500

Question Number : 34 Question Id : 7230532486 Question Type : MCQ Option Shuffling : Yes Display Question Number : Yes
Single Line Question Option : No Option Orientation : Vertical

Correct : 1 Wrong : 0.25

कोणार्क सूर्य मंदिर का अभिप्राय भारतीय रिज़र्व बैंक द्वारा जारी किये गए नव् अभिकल्पित _____ के मुद्रा पत्र (नोट) के पीछे मुद्रित किया गया है।

Options :

✓ ₹ 10

✗ ₹ 50

✗ ₹ 200

✗ ₹ 500

Question Number : 35 Question Id : 7230532487 Question Type : MCQ Option Shuffling : Yes Display Question Number : Yes
Single Line Question Option : No Option Orientation : Vertical

Correct : 1 Wrong : 0.25

Which of the following sources of energy is from fossil fuel?

Options :

✓ Coal

✗ Nuclear

✗ Wind

✗ Hydro

Question Number : 35 Question Id : 7230532487 Question Type : MCQ Option Shuffling : Yes Display Question Number : Yes
Single Line Question Option : No Option Orientation : Vertical

Correct : 1 Wrong : 0.25

निम्नलिखित में से ऊर्जा का कौन सा स्रोत जीवाश्म ईंधन से प्राप्त होता है?

Options :

✓ कोयला

✗ नाभिकीय

✗ पवन

✗ जल

Question Number : 36 Question Id : 7230532488 Question Type : MCQ Option Shuffling : Yes Display Question Number : Yes
Single Line Question Option : No Option Orientation : Vertical

Correct : 1 Wrong : 0.25

What is the energy consumption [in KiloWatt/Hours (kWh)] of a 100 Watt bulb when it is kept switched ON for 20 hours?

Options :

✓ 2 kWh

✖ 4 kWh

✖ 5 kWh

✖ 0.5 kWh

Question Number : 36 Question Id : 7230532488 Question Type : MCQ Option Shuffling : Yes Display Question Number : Yes
Single Line Question Option : No Option Orientation : Vertical

Correct : 1 Wrong : 0.25

100 बॉट के एक बल्ब को जब 20 घंटे प्रकाशित (स्विच ऑन) रखा जाता है, तो इसकी ऊर्जा खपत (kWh में) क्या होगी?

Options :

✔ 2 kWh

✖ 4 kWh

✖ 5 kWh

✖ 0.5 kWh

Question Number : 37 Question Id : 7230532489 Question Type : MCQ Option Shuffling : Yes Display Question Number : Yes
Single Line Question Option : No Option Orientation : Vertical

Correct : 1 Wrong : 0.25

The Infosys Prize instituted by the Infosys Science Foundation is given annually to honour outstanding achievements of contemporary researchers and scientists across _____ categories.

Options :

✔ six

✖ three

✖ four

✖ five

Question Number : 37 Question Id : 7230532489 Question Type : MCQ Option Shuffling : Yes Display Question Number : Yes
Single Line Question Option : No Option Orientation : Vertical

Correct : 1 Wrong : 0.25

इंफोसिस साइंस फ़ाउंडेशन द्वारा स्थापित इंफोसिस पुरस्कार वार्षिक रूप से _____ श्रेणियों में समकालीन शोधकर्ताओं और वैज्ञानिकों की उत्कृष्ट उपलब्धियों का सम्मान करने के लिए दिया जाता है।

Options :

✔ छः

✖ तीन

✖ चार

✖ पाँच

Question Number : 38 Question Id : 7230532490 Question Type : MCQ Option Shuffling : Yes Display Question Number : Yes
Single Line Question Option : No Option Orientation : Vertical

Correct : 1 Wrong : 0.25

What is NOT true with regard to blockchain technology?

Options :

✔ There is a need for an administrator

✖ It is a secure electronic ledger

✖ It is based on a distributed topology

✖ Data is stored globally on many servers

Question Number : 38 Question Id : 7230532490 Question Type : MCQ Option Shuffling : Yes Display Question Number : Yes
Single Line Question Option : No Option Orientation : Vertical

Correct : 1 Wrong : 0.25

खंड श्रृंखला (ब्लॉक चेन) प्रौद्योगिकी के संबंध में क्या सत्य नहीं है?

Options :

✔ एक व्यवस्थापक की आवश्यकता होती है

✖ यह एक सुरक्षित इलेक्ट्रॉनिक खाता है

✖ यह एक वितरित स्थान-विज्ञान (डिस्ट्रीब्यूटेड टोपोलॉजी) पर आधारित है

✖ डेटा को विश्व स्तर पर कई सर्वरों पर भंडारित किया जाता है

Question Number : 39 Question Id : 7230532491 Question Type : MCQ Option Shuffling : Yes Display Question Number : Yes
Single Line Question Option : No Option Orientation : Vertical

Correct : 1 Wrong : 0.25

'ASSOCHAM' stands for 'Associated _____ of Commerce & Industry of India'.

Options :

✔ Chambers

✖ Collectors

✖ Committees

✖ Corporates

Question Number : 39 Question Id : 7230532491 Question Type : MCQ Option Shuffling : Yes Display Question Number : Yes
Single Line Question Option : No Option Orientation : Vertical
Correct : 1 Wrong : 0.25

'ASSOCHAM' का अर्थ 'एसोसिएटेड _____ ऑफ़ कॉमर्स ऐंड इंडस्ट्री ऑफ़ इंडिया' है।

Options :

✔ चैम्बर्स

✖ कलेक्टर्स

✖ कमिटीज़

✖ कॉर्पोरेट्स

Question Number : 40 Question Id : 7230532492 Question Type : MCQ Option Shuffling : Yes Display Question Number : Yes
Single Line Question Option : No Option Orientation : Vertical
Correct : 1 Wrong : 0.25

Fill in the blank with the most appropriate option.

_____ is an organisation that is instrumental in steering e-Government/e-Governance applications in government ministries/departments in India.

Options :

✔ National Informatics Centre

✖ Indian National Portal

✖ Indian Space Research Organisation

✖ National Institution for Transforming India

Question Number : 40 Question Id : 7230532492 Question Type : MCQ Option Shuffling : Yes Display Question Number : Yes
Single Line Question Option : No Option Orientation : Vertical
Correct : 1 Wrong : 0.25

सर्वाधिक उपयुक्त विकल्प के साथ रिक्त स्थान की पूर्ति करें।

_____ एक ऐसा संगठन है जो भारत में सरकारी मंत्रालयों / विभागों में ई-गवर्नमेंट / ई-गवर्नेंस के अनुप्रयोगों के परिचालन में महत्वपूर्ण भूमिका निभाता है।

Options :

- ✓ नेशनल इन्फॉर्मेटिक्स सेंटर
- ✖ इंडियन नेशनल पोर्टल
- ✖ इंडियन स्पेस रिसर्च ऑर्गेनाइज़ेशन
- ✖ नेशनल इंस्टीट्यूशन फ़ॉर ट्रांसफॉर्मिंग इंडिया

	Arithmetic Ability
Group Number :	3
Group Id :	723053123
Group Maximum Duration :	0
Group Minimum Duration :	0
Revisit allowed for view? :	No
Revisit allowed for edit? :	No
Break time:	0
Group Marks:	20

	Arithmetic Ability
Section Id :	723053123
Section Number :	1
Section type :	Online
Mandatory or Optional:	Mandatory
Number of Questions:	17
Number of Questions to be attempted:	17
Section Marks:	20
Display Number Panel:	Yes
Group All Questions:	No

Sub-Section Number:	1
Sub-Section Id:	723053169
Question Shuffling Allowed :	Yes

Question Number : 41 Question Id : 7230532493 Question Type : MCQ Option Shuffling : Yes Display Question Number : Yes
Single Line Question Option : No Option Orientation : Vertical

Correct : 1 Wrong : 0.25

$$\frac{78.5 \times 78.5 \times 78.5 + 21.5 \times 21.5 \times 21.5}{785 \times 785 + 215 \times 215 - 785 \times 215}$$
 is equal to:

Options :

✓ 1

- ☐ 10
- ☐ 100
- ☐ 1,000

Question Number : 41 Question Id : 7230532493 Question Type : MCQ Option Shuffling : Yes Display Question Number : Yes
Single Line Question Option : No Option Orientation : Vertical

Correct : 1 Wrong : 0.25

$$\frac{78.5 \times 78.5 \times 78.5 + 21.5 \times 21.5 \times 21.5}{785 \times 785 + 215 \times 215 - 785 \times 215}$$

निम्नलिखित के बराबर है:

Options :

- ☒ 1
- ☐ 10
- ☐ 100
- ☐ 1,000

Question Number : 42 Question Id : 7230532494 Question Type : MCQ Option Shuffling : Yes Display Question Number : Yes
Single Line Question Option : No Option Orientation : Vertical

Correct : 1 Wrong : 0.25

$$0.5\overline{3} + 0.3\overline{07} - 0.23\overline{6}$$

is equal to:

Options :

- ☐ 0.6040
- ☒ 0.6037
- ☐ 0.6124
- ☐ 0.6057

Question Number : 42 Question Id : 7230532494 Question Type : MCQ Option Shuffling : Yes Display Question Number : Yes
Single Line Question Option : No Option Orientation : Vertical

Correct : 1 Wrong : 0.25

$$0.5\overline{3} + 0.3\overline{07} - 0.23\overline{6}$$

निम्नलिखित के बराबर है:

Options :

- ☐ 0.6040
- ☒ 0.6037

✖ $0.61\overline{24}$

✖ $0.60\overline{57}$

Question Number : 43 Question Id : 7230532495 Question Type : MCQ Option Shuffling : Yes Display Question Number : Yes
Single Line Question Option : No Option Orientation : Vertical

Correct : 1 Wrong : 0.25

Let $x = 13^{65} + 16^{59} + 7^{71}$. What is the digit at unit's place of x ?

Options :

✖ 1

✔ 2

✖ 3

✖ 5

Question Number : 43 Question Id : 7230532495 Question Type : MCQ Option Shuffling : Yes Display Question Number : Yes
Single Line Question Option : No Option Orientation : Vertical

Correct : 1 Wrong : 0.25

$x = 13^{65} + 16^{59} + 7^{71}$ मानें। x की इकाई के स्थान पर अंक क्या है?

Options :

✖ 1

✔ 2

✖ 3

✖ 5

Question Number : 44 Question Id : 7230532496 Question Type : MCQ Option Shuffling : Yes Display Question Number : Yes
Single Line Question Option : No Option Orientation : Vertical

Correct : 1 Wrong : 0.25

The value of $\left[2\frac{3}{8} \div \left\{1\frac{1}{4} - \frac{1}{2}\left(2\frac{1}{2} - \frac{1}{4} - \frac{1}{6}\right)\right\}\right]$ is:

Options :

✖ 38

✖ $\frac{57}{3}$

✖ $\frac{57}{2}$

✔ 57

Question Number : 44 Question Id : 7230532496 Question Type : MCQ Option Shuffling : Yes Display Question Number : Yes
Single Line Question Option : No Option Orientation : Vertical
Correct : 1 Wrong : 0.25

$\left[2\frac{3}{8} \div \left\{ 1\frac{1}{4} - \frac{1}{2} \left(2\frac{1}{2} - \frac{1}{4} - \frac{1}{6} \right) \right\} \right]$ का मान क्या है?

Options :

✖ 38

✖ $\frac{57}{3}$

✖ $\frac{57}{2}$

✔ 57

Question Number : 45 Question Id : 7230532497 Question Type : MCQ Option Shuffling : Yes Display Question Number : Yes
Single Line Question Option : No Option Orientation : Vertical
Correct : 1 Wrong : 0.25

A person spends $\frac{3}{5}$ of his income on food, $\frac{1}{4}$ of the remainder on clothes and $\frac{5}{8}$ of the remainder on miscellaneous items.
If he saves ₹ 5,238, what is his monthly income?

Options :

✖ ₹ 45,350

✖ ₹ 45,580

✔ ₹ 46,560

✖ ₹ 47,380

Question Number : 45 Question Id : 7230532497 Question Type : MCQ Option Shuffling : Yes Display Question Number : Yes
Single Line Question Option : No Option Orientation : Vertical
Correct : 1 Wrong : 0.25

एक व्यक्ति भोजन पर अपनी आय का $\frac{3}{5}$, शेष $\frac{1}{4}$ कपड़े पर और शेष $\frac{5}{8}$ बाकी विविध वस्तुओं पर खर्च करता है।
अगर वह ₹ 5,238 बचाता है, तो उसकी मासिक आय क्या है?

Options :

- ✖ ₹ 45,350
- ✖ ₹ 45,580
- ✔ ₹ 46,560
- ✖ ₹ 47,380

Question Number : 46 Question Id : 7230532498 Question Type : MCQ Option Shuffling : Yes Display Question Number : Yes
Single Line Question Option : No Option Orientation : Vertical

Correct : 1 Wrong : 0.25

The LCM of two natural numbers is thrice the larger number. The difference between the smaller number and the HCF of two numbers is 6. The smaller number is:

Options :

- ✖ 6
- ✔ 9
- ✖ 12
- ✖ 15

Question Number : 46 Question Id : 7230532498 Question Type : MCQ Option Shuffling : Yes Display Question Number : Yes
Single Line Question Option : No Option Orientation : Vertical

Correct : 1 Wrong : 0.25

दो प्राकृतिक संख्याओं का लघुत्तम समापवर्त्य (एलसीएम) तीन गुना बड़ा है। छोटी संख्या और दो संख्याओं के महत्तम समापवर्तक (एचसीएफ) के बीच का अंतर 6 है। छोटी संख्या है:

Options :

- ✖ 6
- ✔ 9
- ✖ 12
- ✖ 15

Question Number : 47 Question Id : 7230532499 Question Type : MCQ Option Shuffling : Yes Display Question Number : Yes
Single Line Question Option : No Option Orientation : Vertical

Correct : 1 Wrong : 0.25

Let x be the least number which when divided by 35, 45 and 55, the remainders are 16, 26 and 36 respectively. What is the value of x ?

Options :

✖ 15

✖ 16

✔ 17

✖ 18

Question Number : 47 Question Id : 7230532499 Question Type : MCQ Option Shuffling : Yes Display Question Number : Yes
Single Line Question Option : No Option Orientation : Vertical

Correct : 1 Wrong : 0.25

x को अल्पतम संख्या मानते हुए जब उसे 35, 45 और 55 द्वारा विभाजित किया जाता है तो, शेष क्रमशः 16, 26, और 36 बचते हैं। x का मान क्या होगा?

Options :

✖ 15

✖ 16

✔ 17

✖ 18

Question Number : 48 Question Id : 7230532500 Question Type : MCQ Option Shuffling : Yes Display Question Number : Yes
Single Line Question Option : No Option Orientation : Vertical

Correct : 1 Wrong : 0.25

If $2a : 3b = 4 : 5$ and $b : 2c = 2 : 3$, what is $a : b : c$?

Options :

✖ 24 : 20 : 21

✔ 24 : 20 : 15

✖ 20 : 24 : 15

✖ 20 : 21 : 24

Question Number : 48 Question Id : 7230532500 Question Type : MCQ Option Shuffling : Yes Display Question Number : Yes
Single Line Question Option : No Option Orientation : Vertical

Correct : 1 Wrong : 0.25

यदि $2a : 3b = 4 : 5$ और $b : 2c = 2 : 3$, $a : b : c$ क्या है?

Options :

✖ 24 : 20 : 21

✓ 24 : 20 : 15

✗ 20 : 24 : 15

✗ 20 : 21 : 24

Question Number : 49 Question Id : 7230532501 Question Type : MCQ Option Shuffling : Yes Display Question Number : Yes
Single Line Question Option : No Option Orientation : Vertical

Correct : 1 Wrong : 0.25

By selling an article, a man loses the amount equivalent to $\frac{1}{8}$ of its cost price. What is his loss percent?

Options :

✓ $\frac{25}{2}\%$

✗ 15%

✗ $\frac{31}{2}\%$

✗ 16%

Question Number : 49 Question Id : 7230532501 Question Type : MCQ Option Shuffling : Yes Display Question Number : Yes
Single Line Question Option : No Option Orientation : Vertical

Correct : 1 Wrong : 0.25

एक वस्तु बेचने पर, एक व्यक्ति को अपनी लागत मूल्य के $\frac{1}{8}$ के बराबर राशि की हानि होती है। उसके हानि का प्रतिशत क्या है?

Options :

✓ $\frac{25}{2}\%$

✗ 15%

✗ $\frac{31}{2}\%$

✗ 16%

Question Number : 50 Question Id : 7230532502 Question Type : MCQ Option Shuffling : Yes Display Question Number : Yes
Single Line Question Option : No Option Orientation : Vertical

Correct : 1 Wrong : 0.25

After allowing a discount of 10% on the marked price of an article, a person gains 17%. By what percent is the marked price above the cost price?

Options :

✗ 22%

✖ 25%

✖ 27%

✔ 30%

Question Number : 50 Question Id : 7230532502 Question Type : MCQ Option Shuffling : Yes Display Question Number : Yes
Single Line Question Option : No Option Orientation : Vertical

Correct : 1 Wrong : 0.25

वस्तु के चिह्नित मूल्य पर 10% की छूट की अनुमति देने के बाद, एक व्यक्ति को 17% लाभ मिलता है। लागत मूल्य से ऊपर चिह्नित मूल्य का प्रतिशत क्या है?

Options :

✖ 22%

✖ 25%

✖ 27%

✔ 30%

Question Number : 51 Question Id : 7230532503 Question Type : MCQ Option Shuffling : Yes Display Question Number : Yes
Single Line Question Option : No Option Orientation : Vertical

Correct : 1 Wrong : 0.25

A sum of ₹ 20,480 amounts to ₹ 24,565 in 18 months at the rate of R% per annum compounded half yearly. What is the value of R?

Options :

✖ $\frac{25}{4}\%$

✖ 8%

✖ 10%

✔ $\frac{25}{2}\%$

Question Number : 51 Question Id : 7230532503 Question Type : MCQ Option Shuffling : Yes Display Question Number : Yes
Single Line Question Option : No Option Orientation : Vertical

Correct : 1 Wrong : 0.25

षट्मासिक रूप से संयोजित ₹ 20,480 की एक धनराशि R% प्रति वर्ष की दर से 18 महीनों में ₹ 24,565 हो जाती है। R का मान क्या होगा?

Options :

✖ $\frac{25}{4}\%$

✖ 8%

✖ 10%

✔ $\frac{25}{2}\%$

Question Number : 52 Question Id : 7230532504 Question Type : MCQ Option Shuffling : Yes Display Question Number : Yes
Single Line Question Option : No Option Orientation : Vertical

Correct : 1 Wrong : 0.25

The radius of the base of a cone is increased by 50% and height is increased by 100%. What is the percent increase in its volume?

Options :

✖ 250%

✖ 300%

✔ 350%

✖ 450%

Question Number : 52 Question Id : 7230532504 Question Type : MCQ Option Shuffling : Yes Display Question Number : Yes
Single Line Question Option : No Option Orientation : Vertical

Correct : 1 Wrong : 0.25

एक शंकु के आधार की त्रिज्या 50% की वृद्धि हुई है और ऊंचाई 100% बढ़ी है। इसकी आयतन में प्रतिशत वृद्धि क्या है?

Options :

✖ 250%

✖ 300%

✔ 350%

✖ 450%

Question Number : 53 Question Id : 7230532505 Question Type : MCQ Option Shuffling : Yes Display Question Number : Yes
Single Line Question Option : No Option Orientation : Vertical

Correct : 1 Wrong : 0.25

A and B take round of a circular path of radius 100 m, starting in opposite direction starting from point P. When B reaches the starting point the first time, he meets A there the fourth time. What is the ratio of the speed of A and B.

Options :

✖ 2 : 1

✔ 3 : 1

✖ 4 : 1

✖ 5 : 1

Question Number : 53 Question Id : 7230532505 Question Type : MCQ Option Shuffling : Yes Display Question Number : Yes
Single Line Question Option : No Option Orientation : Vertical

Correct : 1 Wrong : 0.25

A और B 100 मीटर त्रिज्या के गोलाकार पथ में घूमते हैं, जो बिंदु P से शुरू होने वाली विपरीत दिशा में शुरू होता है। जब B पहली बार शुरुआती बिंदु तक पहुंचता है, तो वह A से चौथी बार मिलता है। A और B की गति का अनुपात क्या है?

Options :

✖ 2 : 1

✔ 3 : 1

✖ 4 : 1

✖ 5 : 1

Question Number : 54 Question Id : 7230532506 Question Type : MCQ Option Shuffling : Yes Display Question Number : Yes
Single Line Question Option : No Option Orientation : Vertical

Correct : 1 Wrong : 0.25

A, B and C can do a piece of work in 20 days, 30 days and 60 days respectively. They started the work together but A left after 5 days and B left after 10 days from the start of the work. In how many days the work would be completed?

Options :

✖ 15

✖ 20

✔ 25

✖ 30

Question Number : 54 Question Id : 7230532506 Question Type : MCQ Option Shuffling : Yes Display Question Number : Yes
Single Line Question Option : No Option Orientation : Vertical

Correct : 1 Wrong : 0.25

A, B और C क्रमशः 20 दिन, 30 दिन और 60 दिनों में काम का एक भाग कर सकते हैं। उन्होंने एक साथ काम शुरू किया लेकिन 5 दिनों के बाद A ने काम छोड़ दिया और B ने काम की शुरुआत के 10 दिनों के बाद काम छोड़ दिया। काम कितने दिन में पूरा हो जाएगा?

Options :

✖ 15

✖ 20

✔ 25

✖ 30

Sub-Section Number: 2
Sub-Section Id: 723053170
Question Shuffling Allowed : Yes

Question Id : 7230532507 Question Type : COMPREHENSION Sub Question Shuffling Allowed : Yes Group Comprehension Questions : No

Question Numbers : (55 to 56)

Question Label : Comprehension

Study the following table and answer the following questions.

The number of students studying in different colleges in different years.

Year	Colleges				
	A	B	C	D	E
2011	2,400	2,100	2,050	1,800	1,900
2012	2,300	2,150	2,200	1,900	2,050
2013	2,100	2,040	2,100	1,800	1,900
2014	2,250	2,200	2,250	2,000	2,200
2015	2,340	2,300	2,180	2,050	2,000

Sub questions

Question Number : 55 Question Id : 7230532508 Question Type : MCQ Option Shuffling : Yes Display Question Number : Yes
Single Line Question Option : No Option Orientation : Vertical
Correct : 1 Wrong : 0.25

What is the average number of students in all the colleges in the year 2013?

Options :

✔ 1,988

✖ 2,008

✖ 2,062

✖ 2,082

Question Number : 56 Question Id : 7230532509 Question Type : MCQ Option Shuffling : Yes Display Question Number : Yes
Single Line Question Option : No Option Orientation : Vertical
Correct : 1 Wrong : 0.25

In which college the percent increase in the number of students in 2015 as compared to the number in the year 2014 was the highest?

Options :

✖ A

✔ B

✖ D

✖ E

Question Id : 7230532507 Question Type : COMPREHENSION Sub Question Shuffling Allowed : Yes Group Comprehension Questions : No
Question Numbers : (55 to 56)
Question Label : Comprehension

निम्नलिखित तालिका का अध्ययन करें और निम्नलिखित प्रश्नों का उत्तर दें।

विभिन्न वर्षों में विभिन्न कॉलेजों में पढ़ रहे छात्रों की संख्या है।

वर्ष	कॉलेज				
	A	B	C	D	E
2011	2,400	2,100	2,050	1,800	1,900
2012	2,300	2,150	2,200	1,900	2,050
2013	2,100	2,040	2,100	1,800	1,900
2014	2,250	2,200	2,250	2,000	2,200
2015	2,340	2,300	2,180	2,050	2,000

Sub questions

Question Number : 55 Question Id : 7230532508 Question Type : MCQ Option Shuffling : Yes Display Question Number : Yes
Single Line Question Option : No Option Orientation : Vertical

Correct : 1 Wrong : 0.25

वर्ष 2013 में सभी कॉलेजों में छात्रों की औसत संख्या क्या है?

Options :

✓ 1,988

✗ 2,008

✗ 2,062

✗ 2,082

Question Number : 56 Question Id : 7230532509 Question Type : MCQ Option Shuffling : Yes Display Question Number : Yes
Single Line Question Option : No Option Orientation : Vertical

Correct : 1 Wrong : 0.25

वर्ष 2014 में विद्यार्थियों की संख्या की तुलना में वर्ष 2015 में छात्रों की संख्या के प्रतिशत में किस कॉलेज में वृद्धि अधिकतम थी?

Options :

✗ A

✓ B

✗ D

✗ E

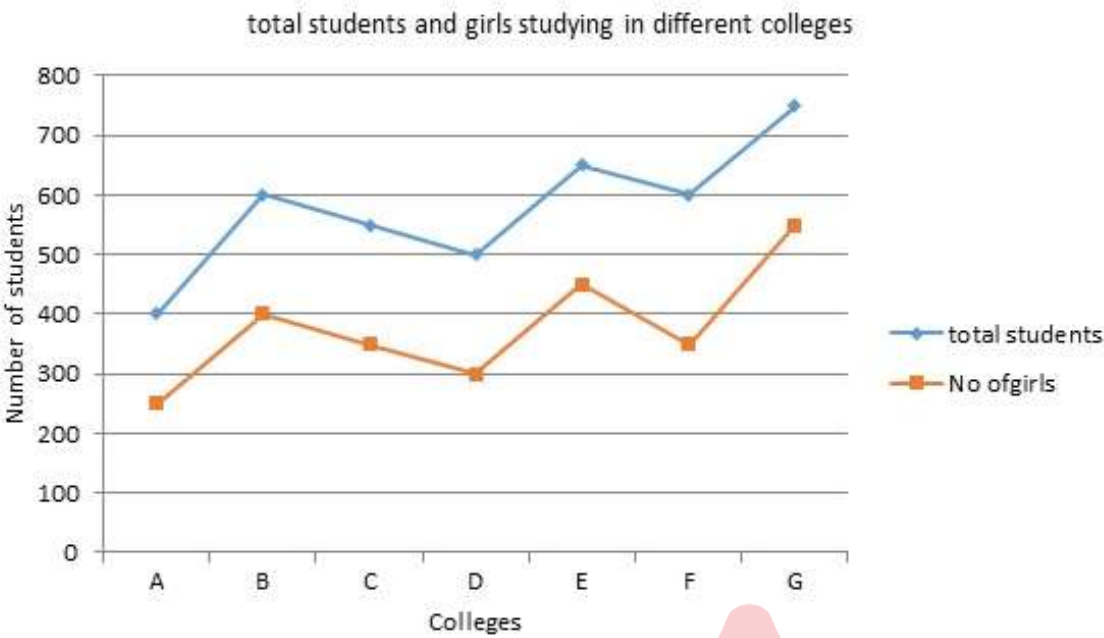
Sub-Section Number: 3
Sub-Section Id: 723053171
Question Shuffling Allowed : Yes

Question Id : 7230532510 Question Type : COMPREHENSION Sub Question Shuffling Allowed : Yes Group Comprehension Questions : No

Question Numbers : (57 to 58)

Question Label : Comprehension

Read the given graph indicating the total students and girls studying in different colleges. Answer the following questions.



Sub questions

Question Number : 57 Question Id : 7230532511 Question Type : MCQ Option Shuffling : Yes Display Question Number : Yes
Single Line Question Option : No Option Orientation : Vertical
Correct : 1 Wrong : 0.25

In which college the percentage of girls is highest than the percentage of boys?

Options :

☐ B

☐ E

☐ C

☒ G

Question Number : 58 Question Id : 7230532512 Question Type : MCQ Option Shuffling : Yes Display Question Number : Yes
Single Line Question Option : No Option Orientation : Vertical
Correct : 1 Wrong : 0.25

What is the ratio of total number of boys and girls when the data of all the 7 colleges is combined?

Options :

☒ 53 : 28

☐ 51 : 28

☐ 49 : 25

✖ 48 : 29

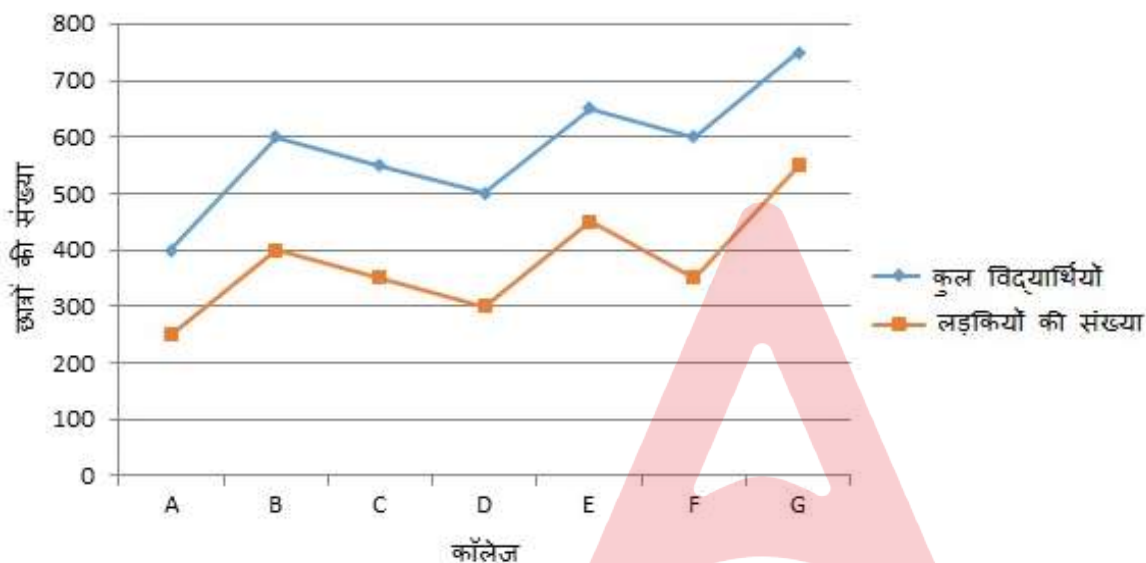
Question Id : 7230532510 Question Type : COMPREHENSION Sub Question Shuffling Allowed : Yes Group Comprehension Questions : No

Question Numbers : (57 to 58)

Question Label : Comprehension

दिए गए ग्राफ को पढ़ें जो विभिन्न कॉलेजों में पढ़ रहे कुल विद्यार्थियों की संख्या को दर्शाता है। निम्नलिखित प्रश्नों का उत्तर दें।

विभिन्न कॉलेजों में पढ़ रहे कुल विद्यार्थियों की संख्या है



Sub questions

Question Number : 57 Question Id : 7230532511 Question Type : MCQ Option Shuffling : Yes Display Question Number : Yes Single Line Question Option : No Option Orientation : Vertical

Correct : 1 Wrong : 0.25

किस कॉलेज में लड़कियों का प्रतिशत लड़कों के प्रतिशत से अधिक है?

Options :

✖ B

✖ E

✖ C

✔ G

Question Number : 58 Question Id : 7230532512 Question Type : MCQ Option Shuffling : Yes Display Question Number : Yes Single Line Question Option : No Option Orientation : Vertical

Correct : 1 Wrong : 0.25

सभी 7 कॉलेजों का डेटा जोड़ने पर लड़कों और लड़कियों की कुल संख्या का अनुपात क्या है?

Options :

✔ 53 : 28

✘ 51 : 28

✘ 49 : 25

✘ 48 : 29

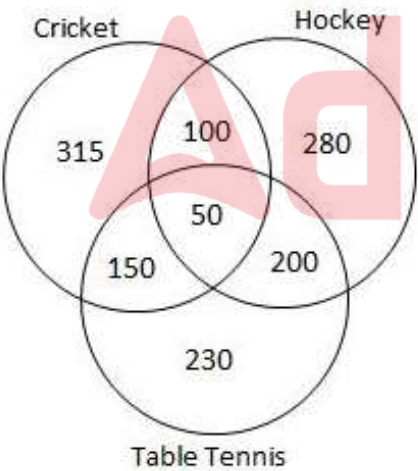
Sub-Section Number: 4
Sub-Section Id: 723053172
Question Shuffling Allowed : Yes

Question Id : 7230532513 Question Type : COMPREHENSION Sub Question Shuffling Allowed : Yes Group Comprehension Questions : No

Question Numbers : (59 to 60)

Question Label : Comprehension

Study the following venn diagram about participation in Cricket, Hockey and Table Tennis. The venn diagram represents the survey conducted on 1,400 persons. Answer the questions 19 and 20.



Sub questions

Question Number : 59 Question Id : 7230532514 Question Type : MCQ Option Shuffling : Yes Display Question Number : Yes Single Line Question Option : No Option Orientation : Vertical

Correct : 1 Wrong : 0.25

How many persons play at least two games?

Options :

✘ 450

✓ 500

✗ 400

✗ 600

Question Number : 60 Question Id : 7230532515 Question Type : MCQ Option Shuffling : Yes Display Question Number : Yes
Single Line Question Option : No Option Orientation : Vertical

Correct : 1 Wrong : 0.25

What is the percentage of persons who do NOT play any of the games? (Give answer correct to one-decimal place)

Options :

✗ 4.8%

✗ 5.2%

✓ 5.4%

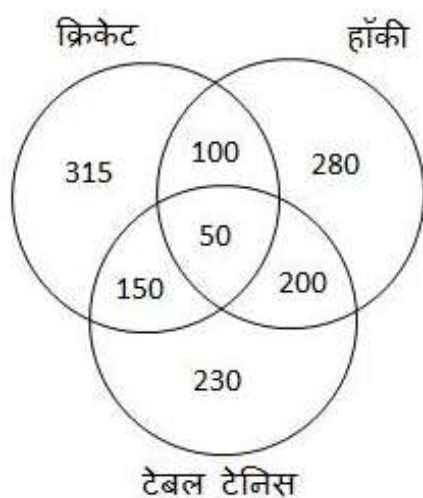
✗ 5.6%

Question Id : 7230532513 Question Type : COMPREHENSION Sub Question Shuffling Allowed : Yes Group Comprehension Questions : No

Question Numbers : (59 to 60)

Question Label : Comprehension

क्रिकेट, हॉकी और टेबल टेनिस में भागीदारी के बारे में जानने के लिए निम्नलिखित वेन आरेख का अध्ययन करें। वेन आरेख 1,400 लोगों पर किए गए सर्वेक्षण को दर्शाता है। प्रश्न 19 और 20 का उत्तर दें।



Sub questions

Question Number : 59 Question Id : 7230532514 Question Type : MCQ Option Shuffling : Yes Display Question Number : Yes
Single Line Question Option : No Option Orientation : Vertical

Correct : 1 Wrong : 0.25

कम से कम दो गेम कितने लोग खेलते हैं?

Options :

✖ 450

✔ 500

✖ 400

✖ 600

Question Number : 60 Question Id : 7230532515 Question Type : MCQ Option Shuffling : Yes Display Question Number : Yes
Single Line Question Option : No Option Orientation : Vertical

Correct : 1 Wrong : 0.25

उन लोगों का प्रतिशत क्या है जो किसी भी गेम को नहीं खेलते हैं? (एक-दशमलव स्थान तक सही उत्तर दें)

Options :

✖ 4.8%

✖ 5.2%

✔ 5.4%

✖ 5.6%



General English

Group Number :	4
Group Id :	723053124
Group Maximum Duration :	0
Group Minimum Duration :	0
Revisit allowed for view? :	No
Revisit allowed for edit? :	No
Break time:	0
Group Marks:	20

General English

Section Id :	723053124
Section Number :	1
Section type :	Online
Mandatory or Optional:	Mandatory
Number of Questions:	16

Number of Questions to be attempted: 16
Section Marks: 20
Display Number Panel: Yes
Group All Questions: No

Sub-Section Number: 1
Sub-Section Id: 723053173
Question Shuffling Allowed : Yes

Question Number : 61 Question Id : 7230532516 Question Type : MCQ Option Shuffling : Yes Display Question Number : Yes
Single Line Question Option : No Option Orientation : Vertical
Correct : 1 Wrong : 0.25

Complete the conditional sentence with the correct option.

If Rani were to publish more papers, _____

Options :

- ☐ she will get her promotion in time.
- ☒ she would get her promotion in time.
- ☐ she would have got her promotion in time.
- ☐ she got her promotion in time.

Question Number : 61 Question Id : 7230532516 Question Type : MCQ Option Shuffling : Yes Display Question Number : Yes
Single Line Question Option : No Option Orientation : Vertical
Correct : 1 Wrong : 0.25

Complete the conditional sentence with the correct option.

If Rani were to publish more papers, _____

Options :

- ☐ she will get her promotion in time.
- ☒ she would get her promotion in time.
- ☐ she would have got her promotion in time.
- ☐ she got her promotion in time.

Question Number : 62 Question Id : 7230532517 Question Type : MCQ Option Shuffling : Yes Display Question Number : Yes
Single Line Question Option : No Option Orientation : Vertical
Correct : 1 Wrong : 0.25

Fill in the blank in the given sentence with the correct passive verb.

The state team _____ in a single match throughout this tournament.

Options :

- ☐ had not beaten
- ☐ has not been beat
- ☐ had not been beat
- ☒ has not been beaten

Question Number : 62 Question Id : 7230532517 Question Type : MCQ Option Shuffling : Yes Display Question Number : Yes
Single Line Question Option : No Option Orientation : Vertical

Correct : 1 Wrong : 0.25

Fill in the blank in the given sentence with the correct passive verb.

The state team _____ in a single match throughout this tournament.

Options :

- ☐ had not beaten
- ☐ has not been beat
- ☐ had not been beat
- ☒ has not been beaten

Question Number : 63 Question Id : 7230532518 Question Type : MCQ Option Shuffling : Yes Display Question Number : Yes
Single Line Question Option : No Option Orientation : Vertical

Correct : 1 Wrong : 0.25

Complete the given cause effect sentence using the correct option.

The search party took a long time to reach the accident site _____

Options :

- ☐ because of there was heavy snow.
- ☒ due to inclement weather.
- ☐ on account of which was bad weather.
- ☐ since there was snow in the weather.

Question Number : 63 Question Id : 7230532518 Question Type : MCQ Option Shuffling : Yes Display Question Number : Yes
Single Line Question Option : No Option Orientation : Vertical
Correct : 1 Wrong : 0.25

Complete the given cause effect sentence using the correct option.

The search party took a long time to reach the accident site _____

Options :

- ☐ because of there was heavy snow.
- ☒ due to inclement weather.
- ☐ on account of which was bad weather.
- ☐ since there was snow in the weather.

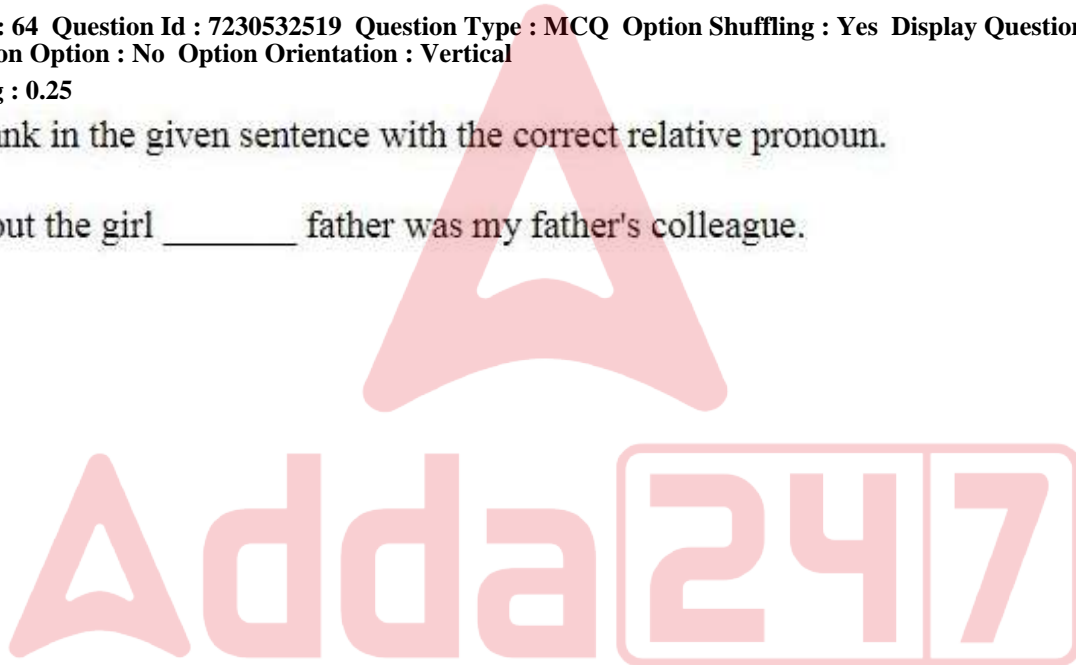
Question Number : 64 Question Id : 7230532519 Question Type : MCQ Option Shuffling : Yes Display Question Number : Yes
Single Line Question Option : No Option Orientation : Vertical
Correct : 1 Wrong : 0.25

Fill in the blank in the given sentence with the correct relative pronoun.

He spoke about the girl _____ father was my father's colleague.

Options :

- ☐ who
- ☐ whom
- ☐ which
- ☒ whose



Question Number : 64 Question Id : 7230532519 Question Type : MCQ Option Shuffling : Yes Display Question Number : Yes
Single Line Question Option : No Option Orientation : Vertical
Correct : 1 Wrong : 0.25

Fill in the blank in the given sentence with the correct relative pronoun.

He spoke about the girl _____ father was my father's colleague.

Options :

- ☐ who
- ☐ whom
- ☐ which

✓ whose

Question Number : 65 Question Id : 7230532520 Question Type : MCQ Option Shuffling : Yes Display Question Number : Yes
Single Line Question Option : No Option Orientation : Vertical

Correct : 1 Wrong : 0.25

Which of the following options is the correct reported form of the given sentence?

She asked Rakshana, "Does your brother work in an engineering college?"

Options :

- ✓ She asked Rakshana whether her brother worked in an engineering college.
- ✗ She asked Rakshana if her brother worked in an engineering college.
- ✗ She asked Rakshana if her brother was working in an engineering college.
- ✗ She asked Rakshana whether her brother has been working in an engineering college.

Note: For this question, discrepancy is found in question/answer. So, this question is ignored for all candidates.

Question Number : 65 Question Id : 7230532520 Question Type : MCQ Option Shuffling : Yes Display Question Number : Yes
Single Line Question Option : No Option Orientation : Vertical

Correct : 1 Wrong : 0.25

Which of the following options is the correct reported form of the given sentence?

She asked Rakshana, "Does your brother work in an engineering college?"

Options :

- ✓ She asked Rakshana whether her brother worked in an engineering college.
- ✗ She asked Rakshana if her brother worked in an engineering college.
- ✗ She asked Rakshana if her brother was working in an engineering college.
- ✗ She asked Rakshana whether her brother has been working in an engineering college.

Note: For this question, discrepancy is found in question/answer. So, this question is ignored for all candidates.

Question Number : 66 Question Id : 7230532521 Question Type : MCQ Option Shuffling : Yes Display Question Number : Yes
Single Line Question Option : No Option Orientation : Vertical

Correct : 1 Wrong : 0.25

Which of the following options is synonymous to the underlined word in the given sentence?

The internet has become ubiquitous as now there are no homes or workplaces, schools or government offices that can operate without it.

Options :

- ☐ Inevitable
- ☒ Omnipresent
- ☐ Expendable
- ☐ Complete

Question Number : 66 Question Id : 7230532521 Question Type : MCQ Option Shuffling : Yes Display Question Number : Yes
Single Line Question Option : No Option Orientation : Vertical

Correct : 1 Wrong : 0.25

Which of the following options is synonymous to the underlined word in the given sentence?

The internet has become ubiquitous as now there are no homes or workplaces, schools or government offices that can operate without it.

Options :

- ☐ Inevitable
- ☒ Omnipresent
- ☐ Expendable
- ☐ Complete

Question Number : 67 Question Id : 7230532522 Question Type : MCQ Option Shuffling : Yes Display Question Number : Yes
Single Line Question Option : No Option Orientation : Vertical

Correct : 1 Wrong : 0.25

Which of the following options is synonymous to the underlined word in the given sentence?

He was fully involved in the clandestine operation.

Options :

- ☐ Legal
- ☐ Community
- ☐ Dangerous
- ☒ Secret

Question Number : 67 Question Id : 7230532522 Question Type : MCQ Option Shuffling : Yes Display Question Number : Yes
Single Line Question Option : No Option Orientation : Vertical

Correct : 1 Wrong : 0.25

Which of the following options is synonymous to the underlined word in the given sentence?

He was fully involved in the clandestine operation.

Options :

- ☐ Legal
- ☐ Community
- ☐ Dangerous
- ☒ Secret

Question Number : 68 Question Id : 7230532523 Question Type : MCQ Option Shuffling : Yes Display Question Number : Yes
Single Line Question Option : No Option Orientation : Vertical

Correct : 1 Wrong : 0.25

Which of the following options is opposite in meaning to the underlined word in the given sentence?

Fame, money and power are all transient.

Options :

- ☒ Permanent
- ☐ Temporary
- ☐ Noisy
- ☐ Corrupt

Question Number : 68 Question Id : 7230532523 Question Type : MCQ Option Shuffling : Yes Display Question Number : Yes
Single Line Question Option : No Option Orientation : Vertical

Correct : 1 Wrong : 0.25

Which of the following options is opposite in meaning to the underlined word in the given sentence?

Fame, money and power are all transient.

Options :

- ☒ Permanent
- ☐ Temporary
- ☐ Noisy
- ☐ Corrupt

Question Number : 69 Question Id : 7230532524 Question Type : MCQ Option Shuffling : Yes Display Question Number : Yes
Single Line Question Option : No Option Orientation : Vertical

Correct : 1 Wrong : 0.25

Which of the following options is opposite in meaning to the underlined word in the given sentence?

The news report is a complete fabrication.

Options :

- ☐ Lie
- ☐ Cloth
- ☒ Truth
- ☐ Fantasy

Question Number : 69 Question Id : 7230532524 Question Type : MCQ Option Shuffling : Yes Display Question Number : Yes
Single Line Question Option : No Option Orientation : Vertical

Correct : 1 Wrong : 0.25

Which of the following options is opposite in meaning to the underlined word in the given sentence?

The news report is a complete fabrication.

Options :

- ☐ Lie
- ☐ Cloth
- ☒ Truth
- ☐ Fantasy

Question Number : 70 Question Id : 7230532525 Question Type : MCQ Option Shuffling : Yes Display Question Number : Yes
Single Line Question Option : No Option Orientation : Vertical

Correct : 1 Wrong : 0.25

All the following pairs, except one, are antonyms of each other, the second word in the pair being formed by a negative prefix. Find the odd pair.

Options :

- ☐ Legitimate - Illegitimate
- ☐ Just - Unjust
- ☐ Measurable - Immeasurable

✓ Valuable - Invaluable

Question Number : 70 Question Id : 7230532525 Question Type : MCQ Option Shuffling : Yes Display Question Number : Yes
Single Line Question Option : No Option Orientation : Vertical

Correct : 1 Wrong : 0.25

All the following pairs, except one, are antonyms of each other, the second word in the pair being formed by a negative prefix. Find the odd pair.

Options :

✗ Legitimate - Illegitimate

✗ Just - Unjust

✗ Measurable - Immeasurable

✓ Valuable - Invaluable

Question Number : 71 Question Id : 7230532526 Question Type : MCQ Option Shuffling : Yes Display Question Number : Yes
Single Line Question Option : No Option Orientation : Vertical

Correct : 1 Wrong : 0.25

All the options are synonyms of the underlined word in the given sentence, but only one of them suits the context. Identify the suitable option.

The courts have ordered the government to expedite the investigation.

Options :

✗ Advance

✓ Accelerate

✗ Further

✗ Precipitate

Question Number : 71 Question Id : 7230532526 Question Type : MCQ Option Shuffling : Yes Display Question Number : Yes
Single Line Question Option : No Option Orientation : Vertical

Correct : 1 Wrong : 0.25

All the options are synonyms of the underlined word in the given sentence, but only one of them suits the context. Identify the suitable option.

The courts have ordered the government to expedite the investigation.

Options :

✗ Advance

✓ Accelerate

✖ Further

✖ Precipitate

Question Number : 72 Question Id : 7230532527 Question Type : MCQ Option Shuffling : Yes Display Question Number : Yes
Single Line Question Option : No Option Orientation : Vertical

Correct : 1 Wrong : 0.25

The given sentence is divided into four parts. One of them contains an error. Identify the part that contains the error.

- A. Big, faceless corporate houses
- B. act without any consideration
- C. for the affect they have
- D. on individuals.

Options :

✖ A

✖ B

✔ C

✖ D

Question Number : 72 Question Id : 7230532527 Question Type : MCQ Option Shuffling : Yes Display Question Number : Yes
Single Line Question Option : No Option Orientation : Vertical

Correct : 1 Wrong : 0.25

The given sentence is divided into four parts. One of them contains an error. Identify the part that contains the error.

- A. Big, faceless corporate houses
- B. act without any consideration
- C. for the affect they have
- D. on individuals.

Options :

✖ A

✖ B

✔ C

✖ D

Question Number : 73 Question Id : 7230532528 Question Type : MCQ Option Shuffling : Yes Display Question Number : Yes
Single Line Question Option : No Option Orientation : Vertical

Correct : 1 Wrong : 0.25

The given sentence is divided into four parts. One of them contains an error. Identify the part that contains the error.

- A. The spicy side dish
- B. is a perfect compliment
- C. to the main dish
- D. which is bland.

Options :

✖ A

✔ B

✖ C

✖ D

Question Number : 73 Question Id : 7230532528 Question Type : MCQ Option Shuffling : Yes Display Question Number : Yes
Single Line Question Option : No Option Orientation : Vertical

Correct : 1 Wrong : 0.25

The given sentence is divided into four parts. One of them contains an error. Identify the part that contains the error.

- A. The spicy side dish
- B. is a perfect compliment
- C. to the main dish
- D. which is bland.

Options :

✖ A

✔ B

✖ C

✖ D

Question Number : 74 Question Id : 7230532529 Question Type : MCQ Option Shuffling : Yes Display Question Number : Yes
Single Line Question Option : No Option Orientation : Vertical

Correct : 1 Wrong : 0.25

The given sentence is divided into four parts. One of them contains an error. Identify the part that contains the error.

- A. If I were the Principal
- B. I will have included
- C. eggs in the daily meal
- D. provided to the children.

Options :

✖ A

✔ B

✖ C

✖ D

Question Number : 74 Question Id : 7230532529 Question Type : MCQ Option Shuffling : Yes Display Question Number : Yes
Single Line Question Option : No Option Orientation : Vertical

Correct : 1 Wrong : 0.25

The given sentence is divided into four parts. One of them contains an error. Identify the part that contains the error.

- A. If I were the Principal
- B. I will have included
- C. eggs in the daily meal
- D. provided to the children.

Options :

✖ A

✔ B

✖ C

✖ D

Question Number : 75 Question Id : 7230532530 Question Type : MCQ Option Shuffling : Yes Display Question Number : Yes
Single Line Question Option : No Option Orientation : Vertical

Correct : 1 Wrong : 0.25

The given sentence is divided into four parts. One of them contains an error. Identify the part that contains the error.

- A. At the year 1857
- B. in the summer months
- C. the Indian sepoys rose
- D. in mutiny against the British.

Options :

✔ A

✖ B

✖ C

✖ D

Question Number : 75 Question Id : 7230532530 Question Type : MCQ Option Shuffling : Yes Display Question Number : Yes
Single Line Question Option : No Option Orientation : Vertical

Correct : 1 Wrong : 0.25

The given sentence is divided into four parts. One of them contains an error. Identify the part that contains the error.

- A. At the year 1857
- B. in the summer months
- C. the Indian sepoys rose
- D. in mutiny against the British.

Options :

☒ A

☐ B

☐ C

☐ D

Sub-Section Number: 2
 Sub-Section Id: 723053174
 Question Shuffling Allowed : Yes

Question Id : 7230532531 Question Type : COMPREHENSION Sub Question Shuffling Allowed : Yes Group Comprehension Questions : No
 Question Numbers : (76 to 80)
 Question Label : Comprehension



Read the given passage and answer the following questions.

1. Scientists have discovered a trove of forty-four planets in solar systems beyond our own in one go, dwarfing the usual number of confirmations from extrasolar surveys.
2. The findings will improve existing models of solar systems, and may help researchers investigate exoplanet atmospheres.
3. Novel techniques developed to validate the find could accelerate the confirmation of more extrasolar planet candidates.
4. Astronomers pooled data from NASA's Kepler and the ESA's Gaia space telescopes. They confirmed the existence of these 44 exoplanets and described various details about them.
5. A portion of the findings yield some surprising characteristics. "For example, four of the planets orbit their host stars in less than 24 hours," said John Livingston, a graduate student at the University of Tokyo in Japan. "In other words, a year on each of those planets is shorter than a day here on Earth," said Livingston, lead author of the study.
6. These contribute to a small but growing list of "ultrashort-period" planets, suggesting that they could be more common than previously believed.
7. "Sixteen were in the same size class as Earth, one in particular turning out to be extremely small - about the size of Venus - which was a nice affirmation, as it's close to the limit of what is possible to detect," said Livingston.
8. Scientists hope to understand what kinds of planets might be out there, but can only draw valid conclusions if there are enough planets for robust statistical analysis.
9. The addition of a large number of new planets, therefore, leads directly to a better theoretical understanding of solar system formation, researchers said.
10. The planets also provide good targets for detailed individual studies to yield measurements of planetary composition, interior structure and atmospheres - in particular, the 18 planets in several multi-planet systems.
11. "The investigation of other solar systems can help us understand how planets and even our own solar system formed. The study of other worlds has much to teach us about our own," said Livingston.

Sub questions

Question Number : 76 Question Id : 7230532532 Question Type : MCQ Option Shuffling : Yes Display Question Number : Yes
Single Line Question Option : No Option Orientation : Vertical

Correct : 1 Wrong : 0.25

Which of the following options best paraphrases paragraph 3 of this article?

Options :

✖ New scientific techniques that have been developed could confirm the existence of other planets in other solar systems that have so far only been mere speculations.

✖ New scientific techniques that have already been used to confirm the existence of other planets in other solar systems could be used more extensively to confirm the existence of many more such planets.

✖ New scientific techniques that have been developed could confirm the existence of other planets in our own solar system that has so far been believed to have only 9 planets.

✔ New scientific techniques that have been developed could confirm the existence of other planets in other solar systems that have already been spotted and reported on.

Question Number : 77 Question Id : 7230532533 Question Type : MCQ Option Shuffling : Yes Display Question Number : Yes
Single Line Question Option : No Option Orientation : Vertical

Correct : 1 Wrong : 0.25

Which of the following is NOT mentioned in the passage as one of the beneficial results of the findings?

Options :

✖ The findings will help improve the understanding of how planetary systems were formed.

✖ The findings will help to understand the structure and composition of planets and their atmospheres.

✖ The findings will help to understand our own planet and solar system better.

✔ The findings will help to identify other inhabitable planets to which human beings could move.

Question Number : 78 Question Id : 7230532534 Question Type : MCQ Option Shuffling : Yes Display Question Number : Yes
Single Line Question Option : No Option Orientation : Vertical

Correct : 1 Wrong : 0.25

Which of the following options best explains the phrase "ultrashort period planet"?

Options :

It is a planet that revolves around its sun in less than 24 hours.

It is a planet that has a short span of life.

It is a planet with a very short orbit around its host star.

It is a planet that is much smaller than Venus.

Question Number : 79 Question Id : 7230532535 Question Type : MCQ Option Shuffling : Yes Display Question Number : Yes Single Line Question Option : No Option Orientation : Vertical

Correct : 1 Wrong : 0.25

Which of the following statements about the research team involved in the study can be inferred from the passage?

Options :

The research team had astronomers from at least three continents.

The research team had astronomers only from the University of Tokyo, Japan.

The research team collected data from America, Europe and Asia.

The research team consisted entirely of graduate students from the University of Tokyo.

Question Number : 80 Question Id : 7230532536 Question Type : MCQ Option Shuffling : Yes Display Question Number : Yes Single Line Question Option : No Option Orientation : Vertical

Correct : 1 Wrong : 0.25

Which of the following statements about this particular study of exoplanets may be inferred from the passage?

Options :

The existence of exoplanets and the characteristics of these planets were already known to researchers and the study only confirmed whatever information they already knew.

The existence of exoplanets was not known to researchers and this study revealed this new facet of the universe to researchers.

The existence of exoplanets was known to researchers but the study revealed that they may be more in number than previously suspected and that they may exhibit some surprising characteristics.

The existence of exoplanets has been confirmed by the study and their characteristics have been thoroughly analysed by the research team.

Question Id : 7230532531 Question Type : COMPREHENSION Sub Question Shuffling Allowed : Yes Group Comprehension Questions : No

Question Numbers : (76 to 80)

Question Label : Comprehension

Read the given passage and answer the following questions.

1. Scientists have discovered a trove of forty-four planets in solar systems beyond our own in one go, dwarfing the usual number of confirmations from extrasolar surveys.
2. The findings will improve existing models of solar systems, and may help researchers investigate exoplanet atmospheres.
3. Novel techniques developed to validate the find could accelerate the confirmation of more extrasolar planet candidates.
4. Astronomers pooled data from NASA's Kepler and the ESA's Gaia space telescopes. They confirmed the existence of these 44 exoplanets and described various details about them.
5. A portion of the findings yield some surprising characteristics. "For example, four of the planets orbit their host stars in less than 24 hours," said John Livingston, a graduate student at the University of Tokyo in Japan. "In other words, a year on each of those planets is shorter than a day here on Earth," said Livingston, lead author of the study.
6. These contribute to a small but growing list of "ultrashort-period" planets, suggesting that they could be more common than previously believed.
7. "Sixteen were in the same size class as Earth, one in particular turning out to be extremely small - about the size of Venus - which was a nice affirmation, as it's close to the limit of what is possible to detect," said Livingston.
8. Scientists hope to understand what kinds of planets might be out there, but can only draw valid conclusions if there are enough planets for robust statistical analysis.
9. The addition of a large number of new planets, therefore, leads directly to a better theoretical understanding of solar system formation, researchers said.
10. The planets also provide good targets for detailed individual studies to yield measurements of planetary composition, interior structure and atmospheres - in particular, the 18 planets in several multi-planet systems.
11. "The investigation of other solar systems can help us understand how planets and even our own solar system formed. The study of other worlds has much to teach us about our own," said Livingston.

Sub questions

Question Number : 76 Question Id : 7230532532 Question Type : MCQ Option Shuffling : Yes Display Question Number : Yes
Single Line Question Option : No Option Orientation : Vertical

Correct : 1 Wrong : 0.25

Which of the following options best paraphrases paragraph 3 of this article?

Options :

✖ New scientific techniques that have been developed could confirm the existence of other planets in other solar systems that have so far only been mere speculations.

✖ New scientific techniques that have already been used to confirm the existence of other planets in other solar systems could be used more extensively to confirm the existence of many more such planets.

✖ New scientific techniques that have been developed could confirm the existence of other planets in our own solar system that has so far been believed to have only 9 planets.

✔ New scientific techniques that have been developed could confirm the existence of other planets in other solar systems that have already been spotted and reported on.

Question Number : 77 Question Id : 7230532533 Question Type : MCQ Option Shuffling : Yes Display Question Number : Yes
Single Line Question Option : No Option Orientation : Vertical

Correct : 1 Wrong : 0.25

Which of the following is NOT mentioned in the passage as one of the beneficial results of the findings?

Options :

✖ The findings will help improve the understanding of how planetary systems were formed.

✖ The findings will help to understand the structure and composition of planets and their atmospheres.

✖ The findings will help to understand our own planet and solar system better.

✔ The findings will help to identify other inhabitable planets to which human beings could move.

Question Number : 78 Question Id : 7230532534 Question Type : MCQ Option Shuffling : Yes Display Question Number : Yes
Single Line Question Option : No Option Orientation : Vertical

Correct : 1 Wrong : 0.25

Which of the following options best explains the phrase "ultrashort period planet"?

Options :

- ☒ It is a planet that revolves around its sun in less than 24 hours.
- ☐ It is a planet that has a short span of life.
- ☐ It is a planet with a very short orbit around its host star.
- ☐ It is a planet that is much smaller than Venus.

Question Number : 79 Question Id : 7230532535 Question Type : MCQ Option Shuffling : Yes Display Question Number : Yes
Single Line Question Option : No Option Orientation : Vertical

Correct : 1 Wrong : 0.25

Which of the following statements about the research team involved in the study can be inferred from the passage?

Options :

- ☐ The research team had astronomers from at least three continents.
- ☐ The research team had astronomers only from the University of Tokyo, Japan.
- ☒ The research team collected data from America, Europe and Asia.
- ☐ The research team consisted entirely of graduate students from the University of Tokyo.

Question Number : 80 Question Id : 7230532536 Question Type : MCQ Option Shuffling : Yes Display Question Number : Yes
Single Line Question Option : No Option Orientation : Vertical

Correct : 1 Wrong : 0.25

Which of the following statements about this particular study of exoplanets may be inferred from the passage?

Options :

The existence of exoplanets and the characteristics of these planets were already known to researchers and the study only confirmed whatever information they already knew.

The existence of exoplanets was not known to researchers and this study revealed this new facet of the universe to researchers.

The existence of exoplanets was known to researchers but the study revealed that they may be more in number than previously suspected and that they may exhibit some surprising characteristics.

The existence of exoplanets has been confirmed by the study and their characteristics have been thoroughly analysed by the research team.

Group Number :	5
Group Id :	723053125
Group Maximum Duration :	0
Group Minimum Duration :	0
Revisit allowed for view? :	No
Revisit allowed for edit? :	No
Break time:	0
Group Marks:	20

Section Id :	723053125
Section Number :	1
Section type :	Online
Mandatory or Optional:	Mandatory
Number of Questions:	16
Number of Questions to be attempted:	16
Section Marks:	20
Display Number Panel:	Yes
Group All Questions:	No

Sub-Section Number:	1
Sub-Section Id:	723053175
Question Shuffling Allowed :	Yes

Question Id : 7230532537 Question Type : COMPREHENSION Sub Question Shuffling Allowed : Yes Group Comprehension Questions : No

Question Numbers : (81 to 85)

Question Label : Comprehension

नीचे दिये गए गद्यांश को पढ़कर पूछे गये प्रश्नों के उत्तर दीजिए।

जैनेंद्र, अज्ञेय और इलाचंद्र जोशी, कहानी की उस धारा का प्रतिनिधित्व करते हैं जो सामाजिक यथार्थ का चित्रण करने वाली धारा के समानांतर बह रही थी। इन पर फ्रायड के चेतन-अचेतन सिद्धांत का प्रभाव दिखाई पड़ता है। इन कहानीकारों के यहाँ सामाजिक विषमता के प्रति आक्रोश का अभाव नहीं है। जैनेंद्र की कहानी एक रात असामान्य काम भावना की कहानी है। जैनेंद्र का पहला कहानी संग्रह फाँसी 1929 ई. में प्रकाशित हुआ है। जैनेंद्र किसी स्थिति को सहज तौर पर नहीं प्रस्तुत करते। उसमें दार्शनिकता का पुट अवश्य होता है। अज्ञेय ने आतंकवादी पात्रों के अतिरिक्त विदेशी वातावरण की कहानियाँ भी लिखी हैं। उनकी प्रारंभिक कहानियों का संग्रह विपथगा 1937 ई. में निकला था। वे वातावरण और पात्रों की मनःस्थिति को परस्पर घुला देने में सिद्धहस्त हैं। इलाचंद्र जोशी की प्रारंभिक कहानियों में सामाजिक यथार्थ को प्रकट करने का आग्रह मिलता है, किंतु सन् 35-36 तक उन पर फ्रायड के मनोविश्लेषण का गहरा असर पड़ गया। उनके कुछ कहानी-संग्रह इस प्रकार हैं- धूपरेखा (1935 ई.), दीवाली और होली (1942 ई.), आहुति (1954 ई.)। जोशी में सामाजिक विषमता के प्रति आक्रोश के अलावा समझ न आ पाने वाली स्थितियों के प्रति रहस्य-भावना भी मिलती है।

Sub questions

Question Number : 81 Question Id : 7230532538 Question Type : MCQ Option Shuffling : Yes Display Question Number : Yes Single Line Question Option : No Option Orientation : Vertical

Correct : 1 Wrong : 0.25

गद्यांश में उल्लिखित कहानीकारों पर किसका प्रभाव है?

Options :

✘ मार्क्स

✔ फ्रायड

✘ डार्विन

✖ गाँधीजी

Question Number : 82 Question Id : 7230532539 Question Type : MCQ Option Shuffling : Yes Display Question Number : Yes
Single Line Question Option : No Option Orientation : Vertical

Correct : 1 Wrong : 0.25

‘फाँसी’ किसका कहानी संग्रह है?

Options :

✔ जैनेंद्र

✖ अज्ञेय

✖ इलाचंद्र जोशी

✖ प्रेमचन्द

Question Number : 83 Question Id : 7230532540 Question Type : MCQ Option Shuffling : Yes Display Question Number : Yes
Single Line Question Option : No Option Orientation : Vertical

Correct : 1 Wrong : 0.25

अज्ञेय का कहानी संग्रह है:

Options :

✖ धूपरेखा

✖ आहुति

✔ विपथगा

✖ दिवाली और होली

Question Number : 84 Question Id : 7230532541 Question Type : MCQ Option Shuffling : Yes Display Question Number : Yes
Single Line Question Option : No Option Orientation : Vertical

Correct : 1 Wrong : 0.25

इलाचंद्र जोशी का कहानी संग्रह नहीं है:

Options :

✖ धूपरेखा

✖ आहुति

❌ दिवाली और होली

✅ एक रात

Question Number : 85 Question Id : 7230532542 Question Type : MCQ Option Shuffling : Yes Display Question Number : Yes
Single Line Question Option : No Option Orientation : Vertical

Correct : 1 Wrong : 0.25

‘फ्रायड’ का संबंध किससे है?

Options :

❌ विश्लेषण

✅ मनोविश्लेषण

❌ बुद्धि विश्लेषण

❌ संश्लेषण

Question Id : 7230532537 Question Type : COMPREHENSION Sub Question Shuffling Allowed : Yes Group Comprehension
Questions : No

Question Numbers : (81 to 85)

Question Label : Comprehension

नीचे दिये गए गद्यांश को पढ़कर पूछे गये प्रश्नों के उत्तर दीजिए।

जैनेंद्र, अज्ञेय और इलाचंद्र जोशी, कहानी की उस धारा का प्रतिनिधित्व करते हैं जो सामाजिक यथार्थ का चित्रण करने वाली धारा के समानांतर बह रही थी। इन पर फ्रायड के चेतन-अचेतन सिद्धांत का प्रभाव दिखाई पड़ता है। इन कहानीकारों के यहाँ सामाजिक विषमता के प्रति आक्रोश का अभाव नहीं है। जैनेंद्र की कहानी एक रात असामान्य काम भावना की कहानी है। जैनेंद्र का पहला कहानी संग्रह फाँसी 1929 ई. में प्रकाशित हुआ है। जैनेंद्र किसी स्थिति को सहज तौर पर नहीं प्रस्तुत करते। उसमें दार्शनिकता का पुट अवश्य होता है। अज्ञेय ने आतंकवादी पात्रों के अतिरिक्त विदेशी वातावरण की कहानियाँ भी लिखी हैं। उनकी प्रारंभिक कहानियों का संग्रह विपथगा 1937 ई. में निकला था। वे वातावरण और पात्रों की मनःस्थिति को परस्पर घुला देने में सिद्धहस्त हैं। इलाचंद्र जोशी की प्रारंभिक कहानियों में सामाजिक यथार्थ को प्रकट करने का आग्रह मिलता है, किंतु सन् 35-36 तक उन पर फ्रायड के मनोविश्लेषण का गहरा असर पड़ गया। उनके कुछ कहानी-संग्रह इस प्रकार हैं- धूपरेखा (1935 ई.), दीवाली और होली (1942 ई.), आहुति (1954 ई.)। जोशी में सामाजिक विषमता के प्रति आक्रोश के अलावा समझ न आ पाने वाली स्थितियों के प्रति रहस्य-भावना भी मिलती है।

Sub questions

Question Number : 81 Question Id : 7230532538 Question Type : MCQ Option Shuffling : Yes Display Question Number : Yes
Single Line Question Option : No Option Orientation : Vertical
Correct : 1 Wrong : 0.25

गद्यांश में उल्लिखित कहानीकारों पर किसका प्रभाव है?

Options :

✘ मार्क्स

✔ फ्रायड

✘ डार्विन

✘ गाँधीजी

Question Number : 82 Question Id : 7230532539 Question Type : MCQ Option Shuffling : Yes Display Question Number : Yes
Single Line Question Option : No Option Orientation : Vertical
Correct : 1 Wrong : 0.25

‘फाँसी’ किसका कहानी संग्रह है?

Options :

✓ जैनेंद्र

✗ अज्ञेय

✗ इलाचंद्र जोशी

✗ प्रेमचन्द

Question Number : 83 Question Id : 7230532540 Question Type : MCQ Option Shuffling : Yes Display Question Number : Yes
Single Line Question Option : No Option Orientation : Vertical

Correct : 1 Wrong : 0.25

अज्ञेय का कहानी संग्रह है:

Options :

✗ धूपरेखा

✗ आहुति

✓ विपथगा

✗ दिवाली और होली

Question Number : 84 Question Id : 7230532541 Question Type : MCQ Option Shuffling : Yes Display Question Number : Yes
Single Line Question Option : No Option Orientation : Vertical

Correct : 1 Wrong : 0.25

इलाचंद्र जोशी का कहानी संग्रह नहीं है:

Options :

✗ धूपरेखा

✗ आहुति

✗ दिवाली और होली

✓ एक रात

Question Number : 85 Question Id : 7230532542 Question Type : MCQ Option Shuffling : Yes Display Question Number : Yes
Single Line Question Option : No Option Orientation : Vertical

Correct : 1 Wrong : 0.25

‘फ्रायड’ का संबंध किससे है?

Options :

- ☐ विश्लेषण
- ☒ मनोविश्लेषण
- ☐ बुद्धि विश्लेषण
- ☐ संश्लेषण

Sub-Section Number: 2
Sub-Section Id: 723053176
Question Shuffling Allowed : Yes

Question Number : 86 Question Id : 7230532543 Question Type : MCQ Option Shuffling : Yes Display Question Number : Yes
Single Line Question Option : No Option Orientation : Vertical

Correct : 1 Wrong : 0.25

निम्नलिखित में तत्सम शब्द है:

Options :

- ☐ दही
- ☐ पत्थर
- ☒ पंक्ति
- ☐ पीठ

Question Number : 86 Question Id : 7230532543 Question Type : MCQ Option Shuffling : Yes Display Question Number : Yes
Single Line Question Option : No Option Orientation : Vertical

Correct : 1 Wrong : 0.25

निम्नलिखित में तत्सम शब्द है:

Options :

- ☐ दही
- ☐ पत्थर
- ☒ पंक्ति

❌ पीठ

Question Number : 87 Question Id : 7230532544 Question Type : MCQ Option Shuffling : Yes Display Question Number : Yes
Single Line Question Option : No Option Orientation : Vertical

Correct : 1 Wrong : 0.25

निम्नलिखित में तद्रव शब्द है:

Options :

✓ सूरज

❌ स्वर्ण

❌ सुगंध

❌ स्रोत

Question Number : 87 Question Id : 7230532544 Question Type : MCQ Option Shuffling : Yes Display Question Number : Yes
Single Line Question Option : No Option Orientation : Vertical

Correct : 1 Wrong : 0.25

निम्नलिखित में तद्रव शब्द है:

Options :

✓ सूरज

❌ स्वर्ण

❌ सुगंध

❌ स्रोत

Question Number : 88 Question Id : 7230532545 Question Type : MCQ Option Shuffling : Yes Display Question Number : Yes
Single Line Question Option : No Option Orientation : Vertical

Correct : 1 Wrong : 0.25

‘जिसे सारी बातों का ज्ञान हो’ के लिए एक शब्द है:

Options :

❌ अज्ञ

❌ अल्पज्ञ

❌ मर्मज्ञ

✓ सर्वज्ञ

Question Number : 88 Question Id : 7230532545 Question Type : MCQ Option Shuffling : Yes Display Question Number : Yes
Single Line Question Option : No Option Orientation : Vertical

Correct : 1 Wrong : 0.25

‘जिसे सारी बातों का ज्ञान हो’ के लिए एक शब्द है:

Options :

✗ अज्ञ

✗ अल्पज्ञ

✗ मर्मज्ञ

✓ सर्वज्ञ

Question Number : 89 Question Id : 7230532546 Question Type : MCQ Option Shuffling : Yes Display Question Number : Yes
Single Line Question Option : No Option Orientation : Vertical

Correct : 1 Wrong : 0.25

‘मनस्ताप’ का संधि-विच्छेद होगा:

Options :

✗ मन + ताप

✗ मनो + ताप

✓ मनः + ताप

✗ मन + स्ताप

Question Number : 89 Question Id : 7230532546 Question Type : MCQ Option Shuffling : Yes Display Question Number : Yes
Single Line Question Option : No Option Orientation : Vertical

Correct : 1 Wrong : 0.25

‘मनस्ताप’ का संधि-विच्छेद होगा:

Options :

✗ मन + ताप

✗ मनो + ताप

✓ मनः + ताप

✗ मन + स्ताप

Question Number : 90 Question Id : 7230532547 Question Type : MCQ Option Shuffling : Yes Display Question Number : Yes
Single Line Question Option : No Option Orientation : Vertical

Correct : 1 Wrong : 0.25

‘सुख दुःख’ में समास है:

Options :

- ☐ तत्पुरुष
- ☒ द्वंद्व
- ☐ द्विगु
- ☐ अव्ययीभाव

Question Number : 90 Question Id : 7230532547 Question Type : MCQ Option Shuffling : Yes Display Question Number : Yes
Single Line Question Option : No Option Orientation : Vertical

Correct : 1 Wrong : 0.25

‘सुख दुःख’ में समास है:

Options :

- ☐ तत्पुरुष
- ☒ द्वंद्व
- ☐ द्विगु
- ☐ अव्ययीभाव

Question Number : 91 Question Id : 7230532548 Question Type : MCQ Option Shuffling : Yes Display Question Number : Yes
Single Line Question Option : No Option Orientation : Vertical

Correct : 1 Wrong : 0.25

निम्नलिखित में से कौन-सा शब्द विशेषण नहीं है?

Options :

- ☐ नया
- ☐ गीला
- ☐ दानी
- ☒ धैर्य

Question Number : 91 Question Id : 7230532548 Question Type : MCQ Option Shuffling : Yes Display Question Number : Yes
Single Line Question Option : No Option Orientation : Vertical

Correct : 1 Wrong : 0.25

निम्नलिखित में से कौन-सा शब्द विशेषण नहीं है?

Options :

- ☐ नया
- ☐ गीला
- ☐ दानी
- ☒ धैर्य

Question Number : 92 Question Id : 7230532549 Question Type : MCQ Option Shuffling : Yes Display Question Number : Yes
Single Line Question Option : No Option Orientation : Vertical

Correct : 1 Wrong : 0.25

निम्नलिखित में कौन-सा शब्द स्त्रीलिंग नहीं है?

Options :

- ☒ श्रम
- ☐ आशा
- ☐ रक्षा
- ☐ योग्यता

Question Number : 92 Question Id : 7230532549 Question Type : MCQ Option Shuffling : Yes Display Question Number : Yes
Single Line Question Option : No Option Orientation : Vertical

Correct : 1 Wrong : 0.25

निम्नलिखित में कौन-सा शब्द स्त्रीलिंग नहीं है?

Options :

- ☒ श्रम
- ☐ आशा
- ☐ रक्षा
- ☐ योग्यता

Question Number : 93 Question Id : 7230532550 Question Type : MCQ Option Shuffling : Yes Display Question Number : Yes
Single Line Question Option : No Option Orientation : Vertical

Correct : 1 Wrong : 0.25

‘मेरा नाम श्रीकृष्ण कुमार जी है।’ वाक्य में अशुद्ध अंश है:

Options :

- ☐ मेरा
- ☐ नाम
- ☒ श्रीकृष्ण कुमार जी
- ☐ है।

Question Number : 93 Question Id : 7230532550 Question Type : MCQ Option Shuffling : Yes Display Question Number : Yes
Single Line Question Option : No Option Orientation : Vertical

Correct : 1 Wrong : 0.25

‘मेरा नाम श्रीकृष्ण कुमार जी है।’ वाक्य में अशुद्ध अंश है:

Options :

- ☐ मेरा
- ☐ नाम
- ☒ श्रीकृष्ण कुमार जी
- ☐ है।

Question Number : 94 Question Id : 7230532551 Question Type : MCQ Option Shuffling : Yes Display Question Number : Yes
Single Line Question Option : No Option Orientation : Vertical

Correct : 1 Wrong : 0.25

‘सूर्योदय हुआ और पक्षी चहचहाने लगे।’ कैसा वाक्य है?

Options :

- ☐ सरल वाक्य
- ☒ संयुक्त वाक्य
- ☐ मिश्र वाक्य
- ☐ उपवाक्य

Question Number : 94 Question Id : 7230532551 Question Type : MCQ Option Shuffling : Yes Display Question Number : Yes
Single Line Question Option : No Option Orientation : Vertical

Correct : 1 Wrong : 0.25

‘सूर्योदय हुआ और पक्षी चहचहाने लगे।’ कैसा वाक्य है?

Options :

- ☐ सरल वाक्य
- ☒ संयुक्त वाक्य
- ☐ मिश्र वाक्य
- ☐ उपवाक्य

Question Number : 95 Question Id : 7230532552 Question Type : MCQ Option Shuffling : Yes Display Question Number : Yes
Single Line Question Option : No Option Orientation : Vertical

Correct : 1 Wrong : 0.25

‘ओह! वह आ गया।’ वाक्य है:

Options :

- ☒ विस्मयवाचक
- ☐ संदेहवाचक
- ☐ आज्ञावाचक
- ☐ इच्छावाचक

Question Number : 95 Question Id : 7230532552 Question Type : MCQ Option Shuffling : Yes Display Question Number : Yes
Single Line Question Option : No Option Orientation : Vertical

Correct : 1 Wrong : 0.25

‘ओह! वह आ गया।’ वाक्य है:

Options :

- ☒ विस्मयवाचक
- ☐ संदेहवाचक
- ☐ आज्ञावाचक
- ☐ इच्छावाचक

Question Number : 96 Question Id : 7230532553 Question Type : MCQ Option Shuffling : Yes Display Question Number : Yes
Single Line Question Option : No Option Orientation : Vertical

Correct : 1 Wrong : 0.25

‘घर’ का पर्यायवाची है:

Options :

- ✖ पट
- ✖ अम्बर
- ✖ नलिन
- ✔ निलय

Question Number : 96 Question Id : 7230532553 Question Type : MCQ Option Shuffling : Yes Display Question Number : Yes
Single Line Question Option : No Option Orientation : Vertical

Correct : 1 Wrong : 0.25

‘घर’ का पर्यायवाची है:

Options :

- ✖ पट
- ✖ अम्बर
- ✖ नलिन
- ✔ निलय

Question Number : 97 Question Id : 7230532554 Question Type : MCQ Option Shuffling : Yes Display Question Number : Yes
Single Line Question Option : No Option Orientation : Vertical

Correct : 1 Wrong : 0.25

‘पुत्री’ का पर्यायवाची नहीं है:

Options :

- ✔ वनिता
- ✖ तनया
- ✖ आत्मजा
- ✖ दुहिता

Question Number : 97 Question Id : 7230532554 Question Type : MCQ Option Shuffling : Yes Display Question Number : Yes
Single Line Question Option : No Option Orientation : Vertical

Correct : 1 Wrong : 0.25

‘पुत्री’ का पर्यायवाची नहीं है:

Options :

✓ वनिता

✗ तनया

✗ आत्मजा

✗ दुहिता

Question Number : 98 Question Id : 7230532555 Question Type : MCQ Option Shuffling : Yes Display Question Number : Yes
Single Line Question Option : No Option Orientation : Vertical

Correct : 1 Wrong : 0.25

‘वृक्ष’ का पर्यायवाची है:

Options :

✗ प्रसून

✗ वल्लभ

✓ वृक्ष

✗ घन

Question Number : 98 Question Id : 7230532555 Question Type : MCQ Option Shuffling : Yes Display Question Number : Yes
Single Line Question Option : No Option Orientation : Vertical

Correct : 1 Wrong : 0.25

‘वृक्ष’ का पर्यायवाची है:

Options :

✗ प्रसून

✗ वल्लभ

✓ वृक्ष

✗ घन

Question Number : 99 Question Id : 7230532556 Question Type : MCQ Option Shuffling : Yes Display Question Number : Yes
Single Line Question Option : No Option Orientation : Vertical

Correct : 1 Wrong : 0.25

‘स्तुति’ का विलोम होगा:

Options :

✖ प्रशंसा

✖ अपमान

✖ अवज्ञा

✔ निंदा

Question Number : 99 Question Id : 7230532556 Question Type : MCQ Option Shuffling : Yes Display Question Number : Yes
Single Line Question Option : No Option Orientation : Vertical

Correct : 1 Wrong : 0.25

‘स्तुति’ का विलोम होगा:

Options :

✖ प्रशंसा

✖ अपमान

✖ अवज्ञा

✔ निंदा

Question Number : 100 Question Id : 7230532557 Question Type : MCQ Option Shuffling : Yes Display Question Number : Yes
Single Line Question Option : No Option Orientation : Vertical

Correct : 1 Wrong : 0.25

‘स्वार्थ’ का विलोम है:

Options :

✖ अर्थ

✔ परमार्थ

✖ निहितार्थ

✖ अर्थहीन

Question Number : 100 Question Id : 7230532557 Question Type : MCQ Option Shuffling : Yes Display Question Number : Yes
Single Line Question Option : No Option Orientation : Vertical

Correct : 1 Wrong : 0.25

‘स्वार्थ’ का विलोम है:

Options :

- ✖ अर्थ
- ✔ परमार्थ
- ✖ निहितार्थ
- ✖ अर्थहीन

Subject Related

Group Number :	6
Group Id :	723053126
Group Maximum Duration :	0
Group Minimum Duration :	0
Revisit allowed for view? :	No
Revisit allowed for edit? :	No
Break time:	0
Group Marks:	20

Subject Related

Section Id :	723053126
Section Number :	1
Section type :	Online
Mandatory or Optional:	Mandatory
Number of Questions:	20
Number of Questions to be attempted:	20
Section Marks:	20
Display Number Panel:	Yes
Group All Questions:	No

Sub-Section Number:	1
Sub-Section Id:	723053177
Question Shuffling Allowed :	Yes

Question Number : 101 Question Id : 7230532558 Question Type : MCQ Option Shuffling : Yes Display Question Number : Yes
Single Line Question Option : No Option Orientation : Vertical
Correct : 1 Wrong : 0.25

The most striking feature of Harappa civilizations was:

Identify from the given options.

- Options :
- ✖ Terracotta toys

✓ Town planning

✗ Great bath

✗ Bronze statues

Question Number : 101 Question Id : 7230532558 Question Type : MCQ Option Shuffling : Yes Display Question Number : Yes
Single Line Question Option : No Option Orientation : Vertical

Correct : 1 Wrong : 0.25

हड़प्पा सभ्यताओं की सबसे महत्वपूर्ण विशेषता क्या थी?

दिए गए विकल्पों में से पहचान करें।

Options :

✗ टेराकोटा खिलौने

✓ नगर नियोजन

✗ महान स्नान (Great bath)

✗ कांस्य मूर्तियां (Bronze statues)

Question Number : 102 Question Id : 7230532559 Question Type : MCQ Option Shuffling : Yes Display Question Number : Yes
Single Line Question Option : No Option Orientation : Vertical

Correct : 1 Wrong : 0.25

The Bronze dancing girl sculpture was found at:

Identify from the given options.

Options :

✓ Mohenjo-Daro

✗ Lothal

✗ Harappa

✗ Chanhudaro

Question Number : 102 Question Id : 7230532559 Question Type : MCQ Option Shuffling : Yes Display Question Number : Yes
Single Line Question Option : No Option Orientation : Vertical

Correct : 1 Wrong : 0.25

कांस्य नृत्य लड़की मूर्तिकला कहाँ पर पाई गई थी?
दिए गए विकल्पों में से पहचान करें।

Options :

- ✓ मोहनजोदड़ो
- ✗ लोथल
- ✗ हड़प्पा
- ✗ चनहुदड़ो (Chanhudaro)

Question Number : 103 Question Id : 7230532560 Question Type : MCQ Option Shuffling : Yes Display Question Number : Yes
Single Line Question Option : No Option Orientation : Vertical
Correct : 1 Wrong : 0.25

The Bust of priest King statue found at Mohenjo-Daro was made up of:

Identify from the given options.

Options :

- ✗ Bronze
- ✗ Black Steatite
- ✗ White Clay
- ✓ Steatite

Question Number : 103 Question Id : 7230532560 Question Type : MCQ Option Shuffling : Yes Display Question Number : Yes
Single Line Question Option : No Option Orientation : Vertical
Correct : 1 Wrong : 0.25

मोहनजोदड़ो में पाए गए पुजारी राजा का वक्ष किस से बना था?
दिए गए विकल्पों में से पहचान करें।

Options :

- ✗ पीतल
- ✗ ब्लैक स्टेटाइट (Black Steatite)
- ✗ सफेद कले

✓ साबुन का पत्थर (Steatite)

Question Number : 104 Question Id : 7230532561 Question Type : MCQ Option Shuffling : Yes Display Question Number : Yes
Single Line Question Option : No Option Orientation : Vertical

Correct : 1 Wrong : 0.25

Identify the decorative motif found on the shawl of the sculpture bust of the Priest King.

Options :

✗ Diamond

✓ Trefoil

✗ Clover

✗ Spade

Question Number : 104 Question Id : 7230532561 Question Type : MCQ Option Shuffling : Yes Display Question Number : Yes
Single Line Question Option : No Option Orientation : Vertical

Correct : 1 Wrong : 0.25

पुजारी राजा की आवक्ष मूर्ति की शॉल पर पाये गए सजावटी रूपांकन (मोटिफ़) को पहचानें।

Options :

✗ हीरा

✓ तिपतिया (ट्रेफ़ॉयल)

✗ मेथी (क्लोवर)

✗ कुदाल

Question Number : 105 Question Id : 7230532562 Question Type : MCQ Option Shuffling : Yes Display Question Number : Yes
Single Line Question Option : No Option Orientation : Vertical

Correct : 1 Wrong : 0.25

The Finest Buddhist stupa in South India is located at which of the following places?

Options :

✓ Amaravati

✗ Sanchi

✗ Srikurmam

✖ Vishakhapatnam

Question Number : 105 Question Id : 7230532562 Question Type : MCQ Option Shuffling : Yes Display Question Number : Yes
Single Line Question Option : No Option Orientation : Vertical

Correct : 1 Wrong : 0.25

दक्षिण भारत में उत्कृष्ट बौद्ध स्तूप निम्नलिखित में से किस स्थान पर स्थित है?

Options :

✔ अमरावती

✖ सांची

✖ श्रीकुरमाम (Srikurmam)

✖ विशाखापत्तनम्

Question Number : 106 Question Id : 7230532563 Question Type : MCQ Option Shuffling : Yes Display Question Number : Yes
Single Line Question Option : No Option Orientation : Vertical

Correct : 1 Wrong : 0.25

Ajanta caves are located on the banks of river:

Identify from the given options.

Options :

✖ Narmada

✔ Waghora

✖ Krishna

✖ Ganga

Question Number : 106 Question Id : 7230532563 Question Type : MCQ Option Shuffling : Yes Display Question Number : Yes
Single Line Question Option : No Option Orientation : Vertical

Correct : 1 Wrong : 0.25

अजंता गुफाएँ किस नदी के तट पर स्थित हैं?

दिये गए विकल्पों में से पहचान करें।

Options :

✖ नर्मदा

✓ वाघोरा (Waghora)

✗ कृष्णा

✗ गंगा

Question Number : 107 Question Id : 7230532564 Question Type : MCQ Option Shuffling : Yes Display Question Number : Yes
Single Line Question Option : No Option Orientation : Vertical

Correct : 1 Wrong : 0.25

Vakatakas Kings are:

Identify from the given options.

Options :

✓ Brahmins

✗ Buddhists

✗ Jains

✗ Violent tribes

Question Number : 107 Question Id : 7230532564 Question Type : MCQ Option Shuffling : Yes Display Question Number : Yes
Single Line Question Option : No Option Orientation : Vertical

Correct : 1 Wrong : 0.25

वाकाटक राजा कौन हैं?

दिये गए विकल्पों में से पहचान करें।

Options :

✓ ब्राह्मण

✗ बौद्ध

✗ जैन

✗ हिंसक जनजातियाँ

Question Number : 108 Question Id : 7230532565 Question Type : MCQ Option Shuffling : Yes Display Question Number : Yes
Single Line Question Option : No Option Orientation : Vertical

Correct : 1 Wrong : 0.25

The Largest stupa is situated at:

Identify from the given options.

Options :

✓ Sanchi

✗ Barhut

✗ Bodhgaya

✗ Karle

Question Number : 108 Question Id : 7230532565 Question Type : MCQ Option Shuffling : Yes Display Question Number : Yes
Single Line Question Option : No Option Orientation : Vertical

Correct : 1 Wrong : 0.25

सबसे बड़ा स्तूप कहाँ स्थित है?

दिये गए विकल्पों में से पहचान करें।

Options :

✓ सांची

✗ बरहुत (Barhut)

✗ बोधगया

✗ कार्ले (Karle)

Question Number : 109 Question Id : 7230532566 Question Type : MCQ Option Shuffling : Yes Display Question Number : Yes
Single Line Question Option : No Option Orientation : Vertical

Correct : 1 Wrong : 0.25

The earliest caves temples in India were dedicated to:

Identify from the given options.

Options :

✗ Buddhists

✗ Hindus

✓ Jains

✗ Islam

Question Number : 109 Question Id : 7230532566 Question Type : MCQ Option Shuffling : Yes Display Question Number : Yes
Single Line Question Option : No Option Orientation : Vertical

Correct : 1 Wrong : 0.25

भारत में प्राचीनतम् गुफा मंदिरों को किसको समर्पित किया गया था?

दिये गए विकल्पों में से पहचान करें।

Options :

- ☐ बौद्धों को
- ☐ हिंदुओं को
- ☒ जैनों को
- ☐ इस्लाम को

Question Number : 110 Question Id : 7230532567 Question Type : MCQ Option Shuffling : Yes Display Question Number : Yes
Single Line Question Option : No Option Orientation : Vertical

Correct : 1 Wrong : 0.25

Most of the Ajanta caves were painted in:

Identify from the given options.

Options :

- ☐ Hinayana period
- ☒ Mahayana Period
- ☐ Vajrayana period
- ☐ Vedic period

Question Number : 110 Question Id : 7230532567 Question Type : MCQ Option Shuffling : Yes Display Question Number : Yes
Single Line Question Option : No Option Orientation : Vertical

Correct : 1 Wrong : 0.25

अधिकांश अजंता गुफाफाओं को कब चित्रित किया गया था?

दिये गए विकल्पों से पहचान करें।

Options :

- ☐ हिनायन काल
- ☒ महायान काल

✖ वज्रयान काल

✖ वैदिक काल

Question Number : 111 Question Id : 7230532568 Question Type : MCQ Option Shuffling : Yes Display Question Number : Yes
Single Line Question Option : No Option Orientation : Vertical

Correct : 1 Wrong : 0.25

निम्नलिखित में से कौन सा विकल्प अजंता की गुफा संख्या 17 से संबंधित नहीं है?

Options :

✔ महाजनक जातक

✖ महाकपि जातक

✖ हंसा जातक

✖ वेसंतर जातक

Question Number : 111 Question Id : 7230532568 Question Type : MCQ Option Shuffling : Yes Display Question Number : Yes
Single Line Question Option : No Option Orientation : Vertical

Correct : 1 Wrong : 0.25

Which of the following is not related to cave no 17 at Ajanta?

Options :

✔ Mahajanaka Jataka

✖ Mahakapi Jataka

✖ Hamsa Jataka

✖ Vessantara Jataka

Question Number : 112 Question Id : 7230532569 Question Type : MCQ Option Shuffling : Yes Display Question Number : Yes
Single Line Question Option : No Option Orientation : Vertical

Correct : 1 Wrong : 0.25

Where is Dasavatara Cave temple located?

Options :

✖ Sittanavasal

✖ Baugh

✘ Ajanta

✔ Ellora

Question Number : 112 Question Id : 7230532569 Question Type : MCQ Option Shuffling : Yes Display Question Number : Yes
Single Line Question Option : No Option Orientation : Vertical
Correct : 1 Wrong : 0.25

दशावतार गुफा मंदिर कहाँ स्थित है?

Options :

✘ सित्तनवासल (Sittanavasal)

✘ बाँग (Baugh)

✘ अजंता

✔ एलोरा

Question Number : 113 Question Id : 7230532570 Question Type : MCQ Option Shuffling : Yes Display Question Number : Yes
Single Line Question Option : No Option Orientation : Vertical
Correct : 1 Wrong : 0.25

Where is the only Sun temple located in South India?

Options :

✔ Kumbhakonam

✘ Kanya kumari

✘ Srikakulam

✘ Konark

Question Number : 113 Question Id : 7230532570 Question Type : MCQ Option Shuffling : Yes Display Question Number : Yes
Single Line Question Option : No Option Orientation : Vertical
Correct : 1 Wrong : 0.25

दक्षिण भारत में एकमात्र सूर्य मंदिर कहाँ स्थित है?

Options :

✔ कुंभकोणम् (Kumbhakonam)

✘ कन्या कुमारी

❌ श्रीकाकुलम्

❌ कोणार्क

Question Number : 114 Question Id : 7230532571 Question Type : MCQ Option Shuffling : Yes Display Question Number : Yes
Single Line Question Option : No Option Orientation : Vertical

Correct : 1 Wrong : 0.25

Where is the famous Brihadisvara Temple located?

Options :

✅ Tanjore

❌ Madurai

❌ Kumbhakonam

❌ Gangaikonda Cholapuram

Question Number : 114 Question Id : 7230532571 Question Type : MCQ Option Shuffling : Yes Display Question Number : Yes
Single Line Question Option : No Option Orientation : Vertical

Correct : 1 Wrong : 0.25

प्रसिद्ध बृहदिश्वर मंदिर कहाँ स्थित है?

Options :

✅ तंजावुर

❌ मदुरै

❌ कुंभकोणम्

❌ गंगाईकोंडा चोलापुरम् (Gangaikonda Cholapuram)

Question Number : 115 Question Id : 7230532572 Question Type : MCQ Option Shuffling : Yes Display Question Number : Yes
Single Line Question Option : No Option Orientation : Vertical

Correct : 1 Wrong : 0.25

Where is the India's Largest mural painting "Veerabhadra" situated?

Options :

❌ Sittanavasal

✅ Lepakshi

✖ Baugh

✖ Ajanta

Question Number : 115 Question Id : 7230532572 Question Type : MCQ Option Shuffling : Yes Display Question Number : Yes
Single Line Question Option : No Option Orientation : Vertical

Correct : 1 Wrong : 0.25

भारत की विशालतम भित्ति चित्रकला "वीरभद्र" कहाँ स्थित है?

Options :

✖ सित्तनवासल (Sittanavasal)

✔ लेपाक्षी

✖ बाँग (Baugh)

✖ अजंता

Question Number : 116 Question Id : 7230532573 Question Type : MCQ Option Shuffling : Yes Display Question Number : Yes
Single Line Question Option : No Option Orientation : Vertical

Correct : 1 Wrong : 0.25

Ellora caves are located in:

Identify from the given options.

Options :

✔ Maharashtra

✖ Madhya Pradesh

✖ Punjab

✖ Tamilnadu

Question Number : 116 Question Id : 7230532573 Question Type : MCQ Option Shuffling : Yes Display Question Number : Yes
Single Line Question Option : No Option Orientation : Vertical

Correct : 1 Wrong : 0.25

एलोरा गुफाएँ कहाँ स्थित हैं?

दिये गए विकल्पों में से पहचान करें।

Options :

✔ महाराष्ट्र

✖ मध्य प्रदेश

✖ पंजाब

✖ तमिलनाडु

Question Number : 117 Question Id : 7230532574 Question Type : MCQ Option Shuffling : Yes Display Question Number : Yes
Single Line Question Option : No Option Orientation : Vertical

Correct : 1 Wrong : 0.25

Who among the following was the connoisseur as well as a painter, Calligrapher of Deccani kingdom?

Options :

✖ Hussain Nizam shah

✖ Mohammd Adil Shah

✔ Ibrahim Adil Shah II

✖ Mohammed Quli Qutb Shah

Question Number : 117 Question Id : 7230532574 Question Type : MCQ Option Shuffling : Yes Display Question Number : Yes
Single Line Question Option : No Option Orientation : Vertical

Correct : 1 Wrong : 0.25

निम्नलिखित में से कौन दक्खिनी साम्राज्य का एक विशेषज्ञ होने के साथ साथ चित्रकार, सुलेखक भी था?

Options :

✖ हुसैन निज़ाम शाह

✖ मोहम्मद आदिल शाह

✔ इब्राहिम आदिल शाह - II

✖ मोहम्मद कुली कुतुब शाह

Question Number : 118 Question Id : 7230532575 Question Type : MCQ Option Shuffling : Yes Display Question Number : Yes
Single Line Question Option : No Option Orientation : Vertical

Correct : 1 Wrong : 0.25

Which of the following was not the characteristic of the Deccani painting?

Options :

✖ Fine draughtmanship

✓ Concern to reality

✗ Rich foliage

✗ Elements of fantasy

Question Number : 118 Question Id : 7230532575 Question Type : MCQ Option Shuffling : Yes Display Question Number : Yes
Single Line Question Option : No Option Orientation : Vertical

Correct : 1 Wrong : 0.25

निम्नलिखित में से क्या दक्खिनी चित्रकला की विशेषता नहीं थी?

Options :

✗ चित्ताकर्षक आरेखकारी (फ़ाइन ड्राफ़्टमैनशिप)

✓ वास्तविकता के साथ संबंध

✗ सघन पर्ण-समूह (रिच फ़ोलिएज)

✗ कल्पना के तत्व

Question Number : 119 Question Id : 7230532576 Question Type : MCQ Option Shuffling : Yes Display Question Number : Yes
Single Line Question Option : No Option Orientation : Vertical

Correct : 1 Wrong : 0.25

Which of these was the earliest manuscript Illustration commissioned by Mughal emperor Akbar?

Options :

✗ Hari vamsa

✗ Tuti nama

✓ Hamza nama

✗ Razm nama

Question Number : 119 Question Id : 7230532576 Question Type : MCQ Option Shuffling : Yes Display Question Number : Yes
Single Line Question Option : No Option Orientation : Vertical

Correct : 1 Wrong : 0.25

मुगल सम्राट अकबर द्वारा आरंभ किया गया प्राचीनतम पांडुलिपि चित्रण निम्नलिखित में से कौन सा था?

Options :

✗ हरि वंश

❌ तूती नामा

✅ हम्ज़ा नामा

❌ रज़्म नामा

Question Number : 120 Question Id : 7230532577 Question Type : MCQ Option Shuffling : Yes Display Question Number : Yes
Single Line Question Option : No Option Orientation : Vertical

Correct : 1 Wrong : 0.25

In which state is Martand Temple located?

Options :

✅ Kashmir

❌ Himachal Pradesh

❌ Maharashtra

❌ Madhya Pradesh

Question Number : 120 Question Id : 7230532577 Question Type : MCQ Option Shuffling : Yes Display Question Number : Yes
Single Line Question Option : No Option Orientation : Vertical

Correct : 1 Wrong : 0.25

मार्तंड मंदिर किस राज्य में स्थित है?

Options :

✅ कश्मीर

❌ हिमाचल प्रदेश

❌ महाराष्ट्र

❌ मध्य प्रदेश

Subject Related

Group Number :

7

Group Id :

723053127

Group Maximum Duration :

0

Group Minimum Duration :

0

Revisit allowed for view? :

No

Revisit allowed for edit? :

No

Break time:

0

Group Marks:

20

	Subject Related
Section Id :	723053127
Section Number :	1
Section type :	Online
Mandatory or Optional:	Mandatory
Number of Questions:	20
Number of Questions to be attempted:	20
Section Marks:	20
Display Number Panel:	Yes
Group All Questions:	No

Sub-Section Number:	1
Sub-Section Id:	723053178
Question Shuffling Allowed :	Yes

Question Number : 121 Question Id : 7230532578 Question Type : MCQ Option Shuffling : Yes Display Question Number : Yes
Single Line Question Option : No Option Orientation : Vertical
Correct : 1 Wrong : 0.25

Where is the famous Nataraja Temple located?

Options :

- ✖ Madurai
- ✖ Kumbhakonam
- ✖ Kanya kumari
- ✔ Chidambaram

Question Number : 121 Question Id : 7230532578 Question Type : MCQ Option Shuffling : Yes Display Question Number : Yes
Single Line Question Option : No Option Orientation : Vertical
Correct : 1 Wrong : 0.25

प्रसिद्ध नटराज मंदिर कहाँ स्थित है?

Options :

- ✖ मदुरै
- ✖ कुंभकोणम्
- ✖ कन्याकुमारी
- ✔ चिदंबरम्

Question Number : 122 Question Id : 7230532579 Question Type : MCQ Option Shuffling : Yes Display Question Number : Yes
Single Line Question Option : No Option Orientation : Vertical

Correct : 1 Wrong : 0.25

Gandhara style was flourished in the reign of the one of the following kings:

Identify from the given options.

Options :

✘ Satavahanas

✘ Sungas

✔ Kushana

✘ Guptas

Question Number : 122 Question Id : 7230532579 Question Type : MCQ Option Shuffling : Yes Display Question Number : Yes
Single Line Question Option : No Option Orientation : Vertical

Correct : 1 Wrong : 0.25

निम्नलिखित राजाओं में से किसी एक के शासनकाल में गांधार शैली का विकास हुआ?

दिये गए विकल्पों में से उसकी पहचान करें।

Options :

✘ सातवाहन

✘ शुंग

✔ कुषाण

✘ गुप्त

Question Number : 123 Question Id : 7230532580 Question Type : MCQ Option Shuffling : Yes Display Question Number : Yes
Single Line Question Option : No Option Orientation : Vertical

Correct : 1 Wrong : 0.25

Cave temples of Sittanavasal were dedicated to the one of the following religion:

Identify from the given options.

Options :

✘ Hindus

✘ Buddhists

✓ Jains

✗ Islam

Question Number : 123 Question Id : 7230532580 Question Type : MCQ Option Shuffling : Yes Display Question Number : Yes
Single Line Question Option : No Option Orientation : Vertical

Correct : 1 Wrong : 0.25

सित्तनवासल का गुफा मंदिर निम्नलिखित धर्मों में से एक को समर्पित था?

दिये गए विकल्पों में से उसकी पहचान करें।

Options :

✗ हिंदू

✗ बौद्ध

✓ जैन

✗ इस्लाम

Question Number : 124 Question Id : 7230532581 Question Type : MCQ Option Shuffling : Yes Display Question Number : Yes
Single Line Question Option : No Option Orientation : Vertical

Correct : 1 Wrong : 0.25

Kalpa Suthra is religious text of:

Identify from the given options.

Options :

✗ Palas

✗ Buddhists

✓ Jains

✗ Hindus

Question Number : 124 Question Id : 7230532581 Question Type : MCQ Option Shuffling : Yes Display Question Number : Yes
Single Line Question Option : No Option Orientation : Vertical

Correct : 1 Wrong : 0.25

कल्प सूत्र किस धर्म का धार्मिक पाठ है?

दिये गए विकल्पों में से पहचान करें।

Options :

✖ पाल

✖ बौद्ध

✔ जैन

✖ हिंदू

Question Number : 125 Question Id : 7230532582 Question Type : MCQ Option Shuffling : Yes Display Question Number : Yes
Single Line Question Option : No Option Orientation : Vertical

Correct : 1 Wrong : 0.25

Which of the following miniatures owes its influence from Ajanta?

Options :

✔ Pala miniatures

✖ Jain miniatures

✖ Mughal miniatures

✖ Rajasthani miniatures

Question Number : 125 Question Id : 7230532582 Question Type : MCQ Option Shuffling : Yes Display Question Number : Yes
Single Line Question Option : No Option Orientation : Vertical

Correct : 1 Wrong : 0.25

निम्नलिखित में से किस लघुचित्र पर अजंता का प्रभाव है?

Options :

✔ पाल लघुचित्र

✖ जैन लघुचित्र

✖ मुगल लघुचित्र

✖ राजस्थानी लघुचित्र

Question Number : 126 Question Id : 7230532583 Question Type : MCQ Option Shuffling : Yes Display Question Number : Yes
Single Line Question Option : No Option Orientation : Vertical

Correct : 1 Wrong : 0.25

Which is the earliest Rajasthani school?

Identify from the given options.

Options :

- ☒ Mewar
- ☐ Bundi
- ☐ Kotah
- ☐ Kishangarh

Question Number : 126 Question Id : 7230532583 Question Type : MCQ Option Shuffling : Yes Display Question Number : Yes
Single Line Question Option : No Option Orientation : Vertical


Correct : 1 Wrong : 0.25

प्राचीनतम राजस्थानी शैली (स्कूल) कौन सा है?

दिये गए विकल्पों में से पहचानें।

Options :

- ☒ मेवाड़
- ☐ बूंदी
- ☐ कोटा
- ☐ किशनगढ़



Question Number : 127 Question Id : 7230532584 Question Type : MCQ Option Shuffling : Yes Display Question Number : Yes
Single Line Question Option : No Option Orientation : Vertical

Correct : 1 Wrong : 0.25

The earliest medium that served for Manuscript illustration was:

Identify from the given options.

Options :

- ☐ Pipal leaf
- ☒ Palm leaf
- ☐ Coconut leaf

✖ Paper

Question Number : 127 Question Id : 7230532584 Question Type : MCQ Option Shuffling : Yes Display Question Number : Yes
Single Line Question Option : No Option Orientation : Vertical

Correct : 1 Wrong : 0.25

पांडुलिपि चित्रण के लिए प्राचीनतम माध्यम क्या था?

दिये गए विकल्पों में से पहचानें।

Options :

✖ पीपल का पत्ता

✔ ताड़ का पत्ता

✖ नारियल का पत्ता

✖ कागज़

Question Number : 128 Question Id : 7230532585 Question Type : MCQ Option Shuffling : Yes Display Question Number : Yes
Single Line Question Option : No Option Orientation : Vertical

Correct : 1 Wrong : 0.25

The most talented artist in flora and fauna in Jahangir court was:

Identify from the given options.

Options :

✖ Abul Hasan

✖ Bishandas

✖ Govardhan

✔ Mansur

Question Number : 128 Question Id : 7230532585 Question Type : MCQ Option Shuffling : Yes Display Question Number : Yes
Single Line Question Option : No Option Orientation : Vertical

Correct : 1 Wrong : 0.25

जहाँगीर के राज-दरबार में वनस्पतियों और जीवों में सर्वाधिक प्रतिभाशाली कलाकार कौन था?

दिये गए विकल्पों में से पहचानें।

Options :

✖ अबुल हसन

✖ बिशनदास

✖ गोवर्धन

✔ मंसूर

Question Number : 129 Question Id : 7230532586 Question Type : MCQ Option Shuffling : Yes Display Question Number : Yes
Single Line Question Option : No Option Orientation : Vertical

Correct : 1 Wrong : 0.25

Identify the artist's duos who were brought from Persia by Mughal King Humayun from the given options.

Options :

✖ Bihazad, Khwaja Abudus Samad

✖ Bihazad, Aga Malik

✔ Mir Syed Ali, Khwaja Abudus Samad

✖ Mir Syed Ali, Basavan

Question Number : 129 Question Id : 7230532586 Question Type : MCQ Option Shuffling : Yes Display Question Number : Yes
Single Line Question Option : No Option Orientation : Vertical

Correct : 1 Wrong : 0.25

दिये गए विकल्पों में से मुगल सम्राट हुमायूँ द्वारा फ़ारस से लाये गए कलाकार-युग्म की पहचान करें।

Options :

✖ बिहज़ाद, ख़्वाजा अबुदस समद

✖ बिहज़ाद, आगा मलिक

✔ मीर सैयद अली, ख़्वाजा अबुदस समद

✖ मीर सैयद अली, बसवान

Question Number : 130 Question Id : 7230532587 Question Type : MCQ Option Shuffling : Yes Display Question Number : Yes
Single Line Question Option : No Option Orientation : Vertical

Correct : 1 Wrong : 0.25

Name the artist who was conferred as "Wonder of the Age" by Jahangir for his Excellency in painting?

Options :

✔ Abul Hasan

✖ Bishan Das

✖ Mansur

✖ Bichitr

Question Number : 130 Question Id : 7230532587 Question Type : MCQ Option Shuffling : Yes Display Question Number : Yes
Single Line Question Option : No Option Orientation : Vertical

Correct : 1 Wrong : 0.25

उस चित्रकार का नाम बताएँ जिसे जहाँगीर ने चित्रकला में उत्कृष्टता के लिए "नादिर-उज़्ज़मान" ("बंडर ऑफ़ द एज") के रूप में सम्मानित किया था?

Options :

✔ अबुल हसन

✖ बिशन दास

✖ मंसूर

✖ बिचित्र

Question Number : 131 Question Id : 7230532588 Question Type : MCQ Option Shuffling : Yes Display Question Number : Yes
Single Line Question Option : No Option Orientation : Vertical

Correct : 1 Wrong : 0.25

Which is most Omnipresent character in Rajput painting?

Options :

✔ Krishna

✖ Durga

✖ Beautiful women

✖ Yoginis

Question Number : 131 Question Id : 7230532588 Question Type : MCQ Option Shuffling : Yes Display Question Number : Yes
Single Line Question Option : No Option Orientation : Vertical

Correct : 1 Wrong : 0.25

राजपूत चित्रकला में सर्वाधिक सर्वव्याप्त चरित्र कौन सा है?

Options :

✔ कृष्णा

- ✖ दुर्गा
- ✖ सुंदर महिलाएँ
- ✖ योगिनियाँ

Question Number : 132 Question Id : 7230532589 Question Type : MCQ Option Shuffling : Yes Display Question Number : Yes
Single Line Question Option : No Option Orientation : Vertical

Correct : 1 Wrong : 0.25

Dhola-Marvani series of paintings are famous from:

Identify from the given options.

Options :

- ✖ Jaipur school
- ✔ Jodhpur school
- ✖ Bikaner school
- ✖ Guler school

Question Number : 132 Question Id : 7230532589 Question Type : MCQ Option Shuffling : Yes Display Question Number : Yes
Single Line Question Option : No Option Orientation : Vertical

Correct : 1 Wrong : 0.25

किस शैली (स्कूल) की चित्रकलाओं की ढोला-मारवणी शृंखलाएँ प्रसिद्ध हैं?
दिये गए विकल्पों में से पहचान करें।

Options :

- ✖ जयपुर शैली (स्कूल)
- ✔ जोधपुर शैली (स्कूल)
- ✖ बीकानेर शैली (स्कूल)
- ✖ गुलेर शैली (स्कूल)

Question Number : 133 Question Id : 7230532590 Question Type : MCQ Option Shuffling : Yes Display Question Number : Yes
Single Line Question Option : No Option Orientation : Vertical

Correct : 1 Wrong : 0.25

Parasurameswara temple is situated at:

Identify from the given options.

Options :

✓ Orissa

✗ Bengal

✗ Uttar Pradesh

✗ Assam

Question Number : 133 Question Id : 7230532590 Question Type : MCQ Option Shuffling : Yes Display Question Number : Yes
Single Line Question Option : No Option Orientation : Vertical

Correct : 1 Wrong : 0.25

परशुरामेश्वर मंदिर कहाँ स्थित है?

दिये गए विकल्पों में से पहचान करें।

Options :

✓ ओड़िशा

✗ बंगाल

✗ उत्तर प्रदेश

✗ असम

Question Number : 134 Question Id : 7230532591 Question Type : MCQ Option Shuffling : Yes Display Question Number : Yes
Single Line Question Option : No Option Orientation : Vertical

Correct : 1 Wrong : 0.25

Tigers and Lions were mostly found in the below cited Rajasthan School:

Identify from the given options.

Options :

✓ Kotah

✗ Bundi

✗ Jaipur

✗ Bikaner

Question Number : 134 Question Id : 7230532591 Question Type : MCQ Option Shuffling : Yes Display Question Number : Yes
Single Line Question Option : No Option Orientation : Vertical

Correct : 1 Wrong : 0.25

नीचे वर्णित किस राजस्थानी शैली (स्कूल) में अधिकांश बाघ और सिंह पाये जाते थे?

दिये गए विकल्पों में से पहचान करें।

Options :

- ☒ कोटा
- ☐ बूंदी
- ☐ जयपुर
- ☐ बीकानेर

Question Number : 135 Question Id : 7230532592 Question Type : MCQ Option Shuffling : Yes Display Question Number : Yes
Single Line Question Option : No Option Orientation : Vertical

Correct : 1 Wrong : 0.25

Bani-Thani painting is famous from the school of:

Identify from the given options.

Options :

- ☐ Bundi
- ☒ Kishangarh
- ☐ Mewar
- ☐ Kotah

Question Number : 135 Question Id : 7230532592 Question Type : MCQ Option Shuffling : Yes Display Question Number : Yes
Single Line Question Option : No Option Orientation : Vertical

Correct : 1 Wrong : 0.25

बनी-ठनी चित्रकला किस शैली (स्कूल) की प्रसिद्ध चित्रकला है?

दिये गए विकल्पों में से पहचान करें।

Options :

- ☐ बूंदी
- ☒ किशनगढ़

✖ मेवाड़

✖ कोटा

Question Number : 136 Question Id : 7230532593 Question Type : MCQ Option Shuffling : Yes Display Question Number : Yes
Single Line Question Option : No Option Orientation : Vertical

Correct : 1 Wrong : 0.25

Chaurapanchasikha series represents the earliest phase of:

Identify from the given options.

Options :

✖ Pahari Painting

✓ Rajasthani Painting

✖ Deccani painting

✖ Mughal painting

Question Number : 136 Question Id : 7230532593 Question Type : MCQ Option Shuffling : Yes Display Question Number : Yes
Single Line Question Option : No Option Orientation : Vertical

Correct : 1 Wrong : 0.25

चौरपंचासिका (चौरपंचाशिखा) श्रृंखला, किसके आरंभिक चरण का प्रतिनिधित्व करती है?

दिये गए विकल्पों में से पहचान करें।

Options :

✖ पहाड़ी चित्रकला

✓ राजस्थानी चित्रकला

✖ दक्खिनी चित्रकला

✖ मुगल चित्रकला

Question Number : 137 Question Id : 7230532594 Question Type : MCQ Option Shuffling : Yes Display Question Number : Yes
Single Line Question Option : No Option Orientation : Vertical

Correct : 1 Wrong : 0.25

Where do we find the medallion relief sculpture "Dream of Maya"?

Options :

✓ Barhut Vedika

- ✖ Sanchi Vedika
- ✖ Jetavana Park
- ✖ Saranath Pillar

Question Number : 137 Question Id : 7230532594 Question Type : MCQ Option Shuffling : Yes Display Question Number : Yes
Single Line Question Option : No Option Orientation : Vertical

Correct : 1 Wrong : 0.25

हमें प्राचीन पदक पर उभारदार नक्काशी युक्त मूर्तिकला "माया का स्वप्न" कहाँ मिलती है?

Options :

- ✔ बरहुत वेदिका
- ✖ सांची वेदिका
- ✖ जेतवन पार्क
- ✖ सारनाथ स्तंभ

Question Number : 138 Question Id : 7230532595 Question Type : MCQ Option Shuffling : Yes Display Question Number : Yes
Single Line Question Option : No Option Orientation : Vertical

Correct : 1 Wrong : 0.25

What is the architectural style of South India known as?

Options :

- ✔ Dravida
- ✖ Vesara
- ✖ Indo-Saracenic
- ✖ Nagara

Question Number : 138 Question Id : 7230532595 Question Type : MCQ Option Shuffling : Yes Display Question Number : Yes
Single Line Question Option : No Option Orientation : Vertical

Correct : 1 Wrong : 0.25

दक्षिण भारत की वास्तुशिल्प शैली किस नाम से जानी जाती है?

Options :

- ✔ द्रविड़

✖ वेसरा (Vesara)

✖ भारतीय-अरबी (इंडो - सारासेनिक)

✖ नागर

Question Number : 139 Question Id : 7230532596 Question Type : MCQ Option Shuffling : Yes Display Question Number : Yes
Single Line Question Option : No Option Orientation : Vertical

Correct : 1 Wrong : 0.25

Who was the patron of Kangra School of Painting?

Options :

✔ Raja Sansarchand

✖ Raja Nihal Chand

✖ Kirpal Pal

✖ Raja Balwant Singh

Question Number : 139 Question Id : 7230532596 Question Type : MCQ Option Shuffling : Yes Display Question Number : Yes
Single Line Question Option : No Option Orientation : Vertical

Correct : 1 Wrong : 0.25

कांगड़ा चित्रकला शैली (कांगड़ा स्कूल ऑफ़ पेंटिंग) के संरक्षक कौन थे?

Options :

✔ राजा संसारचंद

✖ राजा निहाल चंद

✖ कृपाल पाल

✖ राजा बलवंत सिंह

Question Number : 140 Question Id : 7230532597 Question Type : MCQ Option Shuffling : Yes Display Question Number : Yes
Single Line Question Option : No Option Orientation : Vertical

Correct : 1 Wrong : 0.25

The statue of 'Dancing Girl' found in Mohenjodaro discoveries is preserved at:

Identify from the given options.

Options :

- ✖ Victoria Musuem, Kolkata
- ✔ National Museum, New Delhi
- ✖ National Museum of Pakistan
- ✖ Salarjung Museum, Hyderabad

Question Number : 140 Question Id : 7230532597 Question Type : MCQ Option Shuffling : Yes Display Question Number : Yes
Single Line Question Option : No Option Orientation : Vertical
Correct : 1 Wrong : 0.25

मोहनजोदाड़ो की खोजों में पाई जाने वाली नृत्य करती लड़की की मूर्ति को कहाँ संरक्षित किया गया है?
दिये गए विकल्पों में से पहचान करें।

Options :

- ✖ विक्टोरिया संग्रहालय, कोलकाता
- ✔ राष्ट्रीय संग्रहालय, नई दिल्ली
- ✖ पाकिस्तान का राष्ट्रीय संग्रहालय
- ✖ सालारजंग संग्रहालय, हैदराबाद

Group Number :	8
Group Id :	723053128
Group Maximum Duration :	0
Group Minimum Duration :	0
Revisit allowed for view? :	No
Revisit allowed for edit? :	No
Break time:	0
Group Marks:	20

Section Id :	723053128
Section Number :	1
Section type :	Online
Mandatory or Optional:	Mandatory
Number of Questions:	20
Number of Questions to be attempted:	20
Section Marks:	20

Display Number Panel: Yes
Group All Questions: No

Sub-Section Number: 1
Sub-Section Id: 723053179
Question Shuffling Allowed : Yes

Question Number : 141 Question Id : 7230532598 Question Type : MCQ Option Shuffling : Yes Display Question Number : Yes
Single Line Question Option : No Option Orientation : Vertical
Correct : 1 Wrong : 0.25

What is the Mattancherry palace at Kochi famous for?

Options :

✓ Murals

✗ Scroll paintings

✗ Miniatures

✗ Terracottas

Question Number : 141 Question Id : 7230532598 Question Type : MCQ Option Shuffling : Yes Display Question Number : Yes
Single Line Question Option : No Option Orientation : Vertical
Correct : 1 Wrong : 0.25

कोचि में मट्टनचेरी / मटनचेरी महल किसके लिए प्रसिद्ध है?

Options :

✓ भित्ति चित्र (Murals)

✗ लपेटवाँ चित्रकारी (स्क्रॉल पेंटिंग्स)

✗ लघुचित्र

✗ टेराकोटा

Question Number : 142 Question Id : 7230532599 Question Type : MCQ Option Shuffling : Yes Display Question Number : Yes
Single Line Question Option : No Option Orientation : Vertical
Correct : 1 Wrong : 0.25

The pictorial representation of nature as per metaphors used by Brajabasha poets reached to its peak in the school of:

Identify from the given options.

Options :

✓ Kangra

✖ Basholi

✖ Guler

✖ Gharwal

Question Number : 142 Question Id : 7230532599 Question Type : MCQ Option Shuffling : Yes Display Question Number : Yes
Single Line Question Option : No Option Orientation : Vertical

Correct : 1 Wrong : 0.25

ब्रजभाषा कवियों द्वारा प्रयोग किये गए रूपकों के अनुसार प्रकृति का चित्रमय प्रतिनिधित्व किस शैली (स्कूल) में अपने चरम पर पहुँच गया था?

दिये गए विकल्पों में से पहचान करें।

Options :

✔ कांगड़ा

✖ बशोली

✖ गुलेर

✖ गढ़वाल

Question Number : 143 Question Id : 7230532600 Question Type : MCQ Option Shuffling : Yes Display Question Number : Yes
Single Line Question Option : No Option Orientation : Vertical

Correct : 1 Wrong : 0.25

Who built the Brihadisvara temple?

Options :

✖ Narasimhavarman I

✔ Raja Raja Chola I

✖ Raja Simha

✖ Pulakesi II

Question Number : 143 Question Id : 7230532600 Question Type : MCQ Option Shuffling : Yes Display Question Number : Yes
Single Line Question Option : No Option Orientation : Vertical

Correct : 1 Wrong : 0.25

बृहदीश्वर मंदिर किसने बनाया था?

Options :

✖ नरसिंहवर्मन - I

✔ राजा राजा चोल - I

✖ राजा सिम्हा

✖ पुलकेशी - II

Question Number : 144 Question Id : 7230532601 Question Type : MCQ Option Shuffling : Yes Display Question Number : Yes
Single Line Question Option : No Option Orientation : Vertical

Correct : 1 Wrong : 0.25

In which of the following period the Indus valley civilization existed?

Options :

✖ 1000 A.D - 1500 A.D

✖ 35000 B.C - 25000 B.C

✖ 25000 B.C - 15000 B.C

✔ 2500 B.C - 1700 B.C

Question Number : 144 Question Id : 7230532601 Question Type : MCQ Option Shuffling : Yes Display Question Number : Yes
Single Line Question Option : No Option Orientation : Vertical

Correct : 1 Wrong : 0.25

निम्नलिखित में से किस अवधि में सिंधु घाटी सभ्यता अस्तित्व में थी?

Options :

✖ 1000 A.D. - 1500 A.D.

✖ 35000 B.C. - 25000 B.C.

✖ 25000 B.C. - 15000 B.C.

✔ 2500 B.C. - 1700 B.C.

Question Number : 145 Question Id : 7230532602 Question Type : MCQ Option Shuffling : Yes Display Question Number : Yes
Single Line Question Option : No Option Orientation : Vertical

Correct : 1 Wrong : 0.25

To which series does the Rasamanjari series be ascribed?

Options :

✖ Jammu

✓ Basholi

✗ Mandu

✗ Kangra

Question Number : 145 Question Id : 7230532602 Question Type : MCQ Option Shuffling : Yes Display Question Number : Yes
Single Line Question Option : No Option Orientation : Vertical

Correct : 1 Wrong : 0.25

रसमंजरी श्रृंखला का संबंध किस श्रृंखला के साथ है?

Options :

✗ जम्मू

✓ बशोली

✗ मांडू

✗ कांगड़ा

Question Number : 146 Question Id : 7230532603 Question Type : MCQ Option Shuffling : Yes Display Question Number : Yes
Single Line Question Option : No Option Orientation : Vertical

Correct : 1 Wrong : 0.25

In India, the prehistoric burial heap is evolved as a design of:

Identify from the given options.

Options :

✗ Cathedral

✓ Stupa

✗ Pyramid

✗ Chaitya

Question Number : 146 Question Id : 7230532603 Question Type : MCQ Option Shuffling : Yes Display Question Number : Yes
Single Line Question Option : No Option Orientation : Vertical

Correct : 1 Wrong : 0.25

भारत में, प्रागैतिहासिक दफ़न टीले (बरियल हीप) को किसकी / के अभिकल्प (डिज़ाइन) के रूप में विकसित किया गया है?

दिये गए विकल्पों में से पहचान करें।

Options :

✖ प्रधान गिरिजाघर (कैथेड्रल)

✔ स्तूप

✖ पिरामिड

✖ चैत्य

Question Number : 147 Question Id : 7230532604 Question Type : MCQ Option Shuffling : Yes Display Question Number : Yes
Single Line Question Option : No Option Orientation : Vertical
Correct : 1 Wrong : 0.25

Find the correct order of parts of Stupa from the top.

Options :

✔ Chatravali, Harmika, Anda, Vedika

✖ Harmika, Anda, Vedika, Chatravali

✖ Vedika, Chatravali, Anda, Harmika

✖ Vedika, Anda, Harmika, Chatravali

Question Number : 147 Question Id : 7230532604 Question Type : MCQ Option Shuffling : Yes Display Question Number : Yes
Single Line Question Option : No Option Orientation : Vertical
Correct : 1 Wrong : 0.25

स्तूप के भागों का शीर्ष से सही क्रम ज्ञात करें।

Options :

✔ छत्रावली, हर्मिका, अंडा, वेदिका

✖ हर्मिका, अंडा, वेदिका, छत्रावली

✖ वेदिका, छत्रावली, अंडा, हर्मिका

✖ वेदिका, अंडा, हर्मिका, छत्रावली

Question Number : 148 Question Id : 7230532605 Question Type : MCQ Option Shuffling : Yes Display Question Number : Yes
Single Line Question Option : No Option Orientation : Vertical
Correct : 1 Wrong : 0.25

Nainsukh was the court painter of:

Identify from the given options.

Options :

✖ Kangra

✖ Chamba

✔ Guler

✖ Mankot

Question Number : 148 Question Id : 7230532605 Question Type : MCQ Option Shuffling : Yes Display Question Number : Yes
Single Line Question Option : No Option Orientation : Vertical

Correct : 1 Wrong : 0.25

नैनसुख किस राज-दरबार के चित्रकार थे?

दिये गए विकल्पों में से पहचान करें।

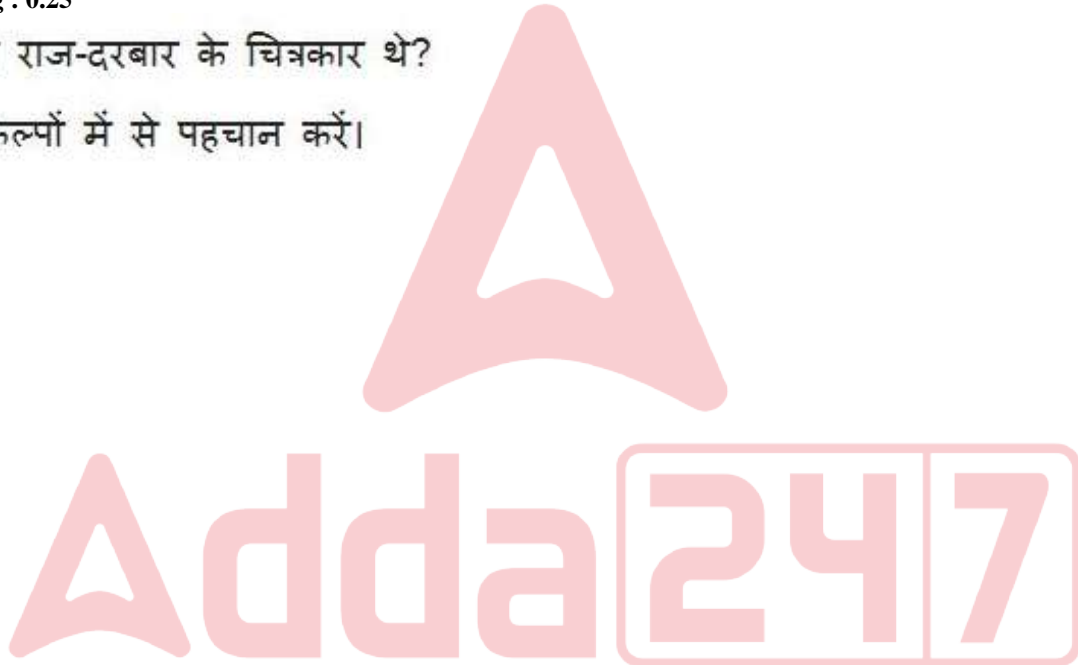
Options :

✖ कांगड़ा

✖ चंबा

✔ गुलेर

✖ मनकोट



Question Number : 149 Question Id : 7230532606 Question Type : MCQ Option Shuffling : Yes Display Question Number : Yes
Single Line Question Option : No Option Orientation : Vertical

Correct : 1 Wrong : 0.25

Which of the below bronze statue inspired the famous sculptor Rodin?

Options :

✖ Buddha

✔ Nataraja

✖ Dancing Girl

✖ Sri Krishna devaraya

Question Number : 149 Question Id : 7230532606 Question Type : MCQ Option Shuffling : Yes Display Question Number : Yes
Single Line Question Option : No Option Orientation : Vertical
Correct : 1 Wrong : 0.25

निम्नलिखित किस पुरुष / स्त्री की कांस्य मूर्ति ने प्रसिद्ध मूर्तिकार रॉडिन को प्रेरित किया?

Options :

- ☐ बुद्ध
- ☒ नटराज
- ☐ नृत्य करती हुई लड़की
- ☐ श्री कृष्ण देवराय


Question Number : 150 Question Id : 7230532607 Question Type : MCQ Option Shuffling : Yes Display Question Number : Yes
Single Line Question Option : No Option Orientation : Vertical
Correct : 1 Wrong : 0.25

Gol Gumbaj is located at:

Identify from the given options.

Options :

- ☒ Karnataka
- ☐ Telangana
- ☐ Delhi
- ☐ Bihar



Question Number : 150 Question Id : 7230532607 Question Type : MCQ Option Shuffling : Yes Display Question Number : Yes
Single Line Question Option : No Option Orientation : Vertical
Correct : 1 Wrong : 0.25

गोल गुंबज कहाँ स्थित है?

दिये गए विकल्पों में से पहचान करें।

Options :

- ☒ कर्नाटक
- ☐ तेलंगाना
- ☐ दिल्ली

❌ बिहार

Question Number : 151 Question Id : 7230532608 Question Type : MCQ Option Shuffling : Yes Display Question Number : Yes
Single Line Question Option : No Option Orientation : Vertical

Correct : 1 Wrong : 0.25

Yaksha/yakshi Images was contributed by the following school of sculpture.

Choose from the given options.

Options :

✅ Mathura

❌ Amaravathi

❌ Sunga

❌ Hoyasala

Question Number : 151 Question Id : 7230532608 Question Type : MCQ Option Shuffling : Yes Display Question Number : Yes
Single Line Question Option : No Option Orientation : Vertical

Correct : 1 Wrong : 0.25

यक्ष / यक्षी छवियों का मूर्तिकला के निम्नलिखित में से किस शैली (स्कूल) द्वारा योगदान दिया गया था?
दिये गए विकल्पों में से पहचान करें।

Options :

✅ मथुरा

❌ अमरावती

❌ शुंग

❌ होयसल

Question Number : 152 Question Id : 7230532609 Question Type : MCQ Option Shuffling : Yes Display Question Number : Yes
Single Line Question Option : No Option Orientation : Vertical

Correct : 1 Wrong : 0.25

Nihalchand was the court painter of:

Choose from the given options.

Options :

❌ Mewar

✓ Kishangargh

✗ Kangra

✗ Mandu

Question Number : 152 Question Id : 7230532609 Question Type : MCQ Option Shuffling : Yes Display Question Number : Yes
Single Line Question Option : No Option Orientation : Vertical

Correct : 1 Wrong : 0.25

निहालचंद किस राज-दरबार के चित्रकार थे?

दिये गए विकल्पों में से चुनें।

Options :

✗ मेवाड़

✓ किशनगढ़

✗ कांगड़ा

✗ मांडू

Question Number : 153 Question Id : 7230532610 Question Type : MCQ Option Shuffling : Yes Display Question Number : Yes
Single Line Question Option : No Option Orientation : Vertical

Correct : 1 Wrong : 0.25

Who built the Qutub Minar?

Options :

✗ Ibrahim Lodi

✗ Quli Qutb Shah

✓ Qutab-Ud Din Aibak

✗ Jamsheed Quli Qutb Shah

Question Number : 153 Question Id : 7230532610 Question Type : MCQ Option Shuffling : Yes Display Question Number : Yes
Single Line Question Option : No Option Orientation : Vertical

Correct : 1 Wrong : 0.25

कुतुब मीनार का निर्माण किसने करवाया था?

Options :

- ✖ इब्राहिम लोदी
- ✖ कुली कुतुबशाह
- ✔ कुतुब - उद् दीन ऐबक
- ✖ जमशेद कुली कुतुब शाह

Question Number : 154 Question Id : 7230532611 Question Type : MCQ Option Shuffling : Yes Display Question Number : Yes
Single Line Question Option : No Option Orientation : Vertical

Correct : 1 Wrong : 0.25

Miniature “Yogini seated beside a Stream” can be ascribed to:

Choose from the given options.

Options :

- ✖ Ahmednagar
- ✔ Bijapur
- ✖ Golconda
- ✖ Bidar

Question Number : 154 Question Id : 7230532611 Question Type : MCQ Option Shuffling : Yes Display Question Number : Yes
Single Line Question Option : No Option Orientation : Vertical

Correct : 1 Wrong : 0.25

लघुचित्र “एक जलधारा के किनारे बैठी योगिनी” को निम्नलिखित में से किसके साथ संबद्ध किया जा सकता है?
दिये गए विकल्पों में से चुनें।

Options :

- ✖ अहमदनगर
- ✔ बीजापुर
- ✖ गोलकुंडा
- ✖ बीदर

Question Number : 155 Question Id : 7230532612 Question Type : MCQ Option Shuffling : Yes Display Question Number : Yes
Single Line Question Option : No Option Orientation : Vertical
Correct : 1 Wrong : 0.25

The vehicle of the Goddess Ganga which we see on the jambs of gateways in India is:

Choose from the given options.

Options :

✓ Crocodile

✗ Tortoise

✗ Fish

✗ Owl

Question Number : 155 Question Id : 7230532612 Question Type : MCQ Option Shuffling : Yes Display Question Number : Yes
Single Line Question Option : No Option Orientation : Vertical
Correct : 1 Wrong : 0.25

देवी गंगा का वाहन, जिसे हम भारत में प्रवेश द्वारों के चौखटों पर देखते हैं, निम्नलिखित में से क्या है?
दिये गए विकल्पों में से चुनें।

Options :

✓ मगरमच्छ

✗ कछुआ

✗ मछली

✗ उल्लू

Question Number : 156 Question Id : 7230532613 Question Type : MCQ Option Shuffling : Yes Display Question Number : Yes
Single Line Question Option : No Option Orientation : Vertical
Correct : 1 Wrong : 0.25

Most of the Kakatiya temple were built in:

Choose from the given options.

Options :

✗ Dwikuta

✓ Trikuta

✗ Panchayana

✖ Ashtakuta

Question Number : 156 Question Id : 7230532613 Question Type : MCQ Option Shuffling : Yes Display Question Number : Yes
Single Line Question Option : No Option Orientation : Vertical

Correct : 1 Wrong : 0.25

अधिकांश काकतिया मंदिर कहाँ निर्मित करवाए गए थे?

दिये गए विकल्पों में से चुनें।

Options :

✖ द्विकुट (Dwikuta)

✔ त्रिकुट

✖ पंचायन

✖ अष्टकुट

Question Number : 157 Question Id : 7230532614 Question Type : MCQ Option Shuffling : Yes Display Question Number : Yes
Single Line Question Option : No Option Orientation : Vertical

Correct : 1 Wrong : 0.25

The sculpture "Ravana shaking mount Kailasa" is located at:

Choose from the given options.

Options :

✔ Ellora caves

✖ Ajanta Caves

✖ Baugh caves

✖ Sittanavasal caves

Question Number : 157 Question Id : 7230532614 Question Type : MCQ Option Shuffling : Yes Display Question Number : Yes
Single Line Question Option : No Option Orientation : Vertical

Correct : 1 Wrong : 0.25

मूर्तिकला "कैलाश पर्वत को हिलाते हुए रावण" कहाँ स्थित है?

दिये गए विकल्पों में से चुनें।

Options :

- ✓ एलोरा गुफाओं में
- ✗ अजंता गुफाओं में
- ✗ बाघ गुफाओं में
- ✗ सित्तनवासल गुफाओं में

Question Number : 158 Question Id : 7230532615 Question Type : MCQ Option Shuffling : Yes Display Question Number : Yes
Single Line Question Option : No Option Orientation : Vertical

Correct : 1 Wrong : 0.25

Relief rock boulder “Arjuna’s Penance or Descent of Ganges” is situated at:

Choose from the given options.

Options :

- ✓ Mahabalipuram
- ✗ Kanyakumari
- ✗ Tanjore
- ✗ Madurai

Question Number : 158 Question Id : 7230532615 Question Type : MCQ Option Shuffling : Yes Display Question Number : Yes
Single Line Question Option : No Option Orientation : Vertical

Correct : 1 Wrong : 0.25

चट्टान के बड़े टुकड़े पर निर्मित उभारदार आकृतियाँ “अर्जुन की तपस्या या गंगावतरण” कहाँ स्थित हैं?
दिये गए विकल्पों में से चुनें।

Options :

- ✓ महाबलीपुरम्
- ✗ कन्याकुमारी
- ✗ तंजावुर
- ✗ मदुरै

Question Number : 159 Question Id : 7230532616 Question Type : MCQ Option Shuffling : Yes Display Question Number : Yes
Single Line Question Option : No Option Orientation : Vertical
Correct : 1 Wrong : 0.25

The Deccan school of Painting is contemporary to:

Choose from the given options.

Options :

- ☐ Rajasthan Painting
- ☐ Jain Painting
- ☒ Mughal Painting
- ☐ Company Painting

Question Number : 159 Question Id : 7230532616 Question Type : MCQ Option Shuffling : Yes Display Question Number : Yes
Single Line Question Option : No Option Orientation : Vertical
Correct : 1 Wrong : 0.25

चित्रकारी का दक्खिन शैली (स्कूल) किसके समकालीन है?

दिये गए विकल्पों में से चुनें।

Options :

- ☐ राजस्थानी चित्रकारी
- ☐ जैन चित्रकारी
- ☒ मुगल चित्रकारी
- ☐ संगति (कंपनी) चित्रकारी

Question Number : 160 Question Id : 7230532617 Question Type : MCQ Option Shuffling : Yes Display Question Number : Yes
Single Line Question Option : No Option Orientation : Vertical
Correct : 1 Wrong : 0.25

Who did the painting "Between the Spider and Lamp"?

Options :

- ☒ M.F. Hussain
- ☐ Sanat Kar
- ☐ Akbar Padamsee

✖ F. N. Souza

Question Number : 160 Question Id : 7230532617 Question Type : MCQ Option Shuffling : Yes Display Question Number : Yes
Single Line Question Option : No Option Orientation : Vertical

Correct : 1 Wrong : 0.25

“मकड़ी और दीपक के बीच” (“बिटविन द स्पाइडर ऐंड लैंप”) चित्रकला का निर्माण किसने किया था?

Options :

✔ एम. एफ़. हुसैन

✖ सनत कर

✖ अकबर पदमसी (Akbar Padamsee)

✖ एफ़. एन. सूज़ा (F.N. Souza)

Group Number :	9
Group Id :	723053129
Group Maximum Duration :	0
Group Minimum Duration :	0
Revisit allowed for view? :	No
Revisit allowed for edit? :	No
Break time:	0
Group Marks:	20

	Subject Related
Section Id :	723053129
Section Number :	1
Section type :	Online
Mandatory or Optional:	Mandatory
Number of Questions:	20
Number of Questions to be attempted:	20
Section Marks:	20
Display Number Panel:	Yes
Group All Questions:	No

Sub-Section Number:	1
Sub-Section Id:	723053180
Question Shuffling Allowed :	Yes

Question Number : 161 Question Id : 7230532618 Question Type : MCQ Option Shuffling : Yes Display Question Number : Yes
Single Line Question Option : No Option Orientation : Vertical

Correct : 1 Wrong : 0.25

Where is the Taj Mahal built?

Options :

✖ Delhi

✖ Bihar

✖ Amritsar

✔ Agra

Question Number : 161 Question Id : 7230532618 Question Type : MCQ Option Shuffling : Yes Display Question Number : Yes
Single Line Question Option : No Option Orientation : Vertical

Correct : 1 Wrong : 0.25

ताजमहल का निर्माण कहाँ हुआ था?

Options :

✖ दिल्ली

✖ बिहार

✖ अमृतसर

✔ आगरा

Question Number : 162 Question Id : 7230532619 Question Type : MCQ Option Shuffling : Yes Display Question Number : Yes
Single Line Question Option : No Option Orientation : Vertical

Correct : 1 Wrong : 0.25

The Monolith sculpture of Gommateswara was set up at:

Choose from the given options.

Options :

✔ Sravana Belgola

✖ Mysore

✖ Kumbhakonam

✖ Tiruvannamalai

Question Number : 162 Question Id : 7230532619 Question Type : MCQ Option Shuffling : Yes Display Question Number : Yes
Single Line Question Option : No Option Orientation : Vertical

Correct : 1 Wrong : 0.25

गोमटेश्वर की केवल एक ही पत्थर से बनी मूर्ति की स्थापना कहाँ की गई थी?
दिये गए विकल्पों में से चयन करें।

Options :

✓ श्रवण बेलगोला

✗ मैसूर

✗ कुम्भकोणम्

✗ तिरुवन्नामलाई

Question Number : 163 Question Id : 7230532620 Question Type : MCQ Option Shuffling : Yes Display Question Number : Yes
Single Line Question Option : No Option Orientation : Vertical

Correct : 1 Wrong : 0.25

Where is Lord Jagannath temple situated?

Options :

✗ Bhubaneswar

✗ Konark

✓ Puri

✗ Raghurajpur

Question Number : 163 Question Id : 7230532620 Question Type : MCQ Option Shuffling : Yes Display Question Number : Yes
Single Line Question Option : No Option Orientation : Vertical

Correct : 1 Wrong : 0.25

भगवान जगन्नाथ का मंदिर कहाँ स्थित है?

Options :

✗ भुवनेश्वर

✗ कोणार्क

✓ पुरी

✗ रघुराजपुर

Question Number : 164 Question Id : 7230532621 Question Type : MCQ Option Shuffling : Yes Display Question Number : Yes
Single Line Question Option : No Option Orientation : Vertical
Correct : 1 Wrong : 0.25

Which one of the following was not painted by Raja Ravi Varma?

Options :

- ☐ Galaxy of Musicians
- ☐ Rama Vanquishing the sea
- ☒ Brahmacharis
- ☐ Gipsy family

Question Number : 164 Question Id : 7230532621 Question Type : MCQ Option Shuffling : Yes Display Question Number : Yes
Single Line Question Option : No Option Orientation : Vertical
Correct : 1 Wrong : 0.25

निम्नलिखित में से किसे राजा रवि वर्मा द्वारा चित्रित नहीं किया गया था?

Options :

- ☐ संगीतकारों की विशिष्ट मंडली (गैलेक्सी)
- ☐ राम द्वारा समुद्र को परास्त करना
- ☒ ब्रह्मचारी
- ☐ यायावर (जिप्सी) परिवार

Question Number : 165 Question Id : 7230532622 Question Type : MCQ Option Shuffling : Yes Display Question Number : Yes
Single Line Question Option : No Option Orientation : Vertical
Correct : 1 Wrong : 0.25

Identify the ratio of the Indian flag in length to the width.

Options :

- ☐ 1 : 3
- ☐ 5 : 3
- ☒ 3 : 2
- ☐ 2 : 3

Question Number : 165 Question Id : 7230532622 Question Type : MCQ Option Shuffling : Yes Display Question Number : Yes
Single Line Question Option : No Option Orientation : Vertical

Correct : 1 Wrong : 0.25

भारतीय ध्वज की लंबाई और चौड़ाई के अनुपात की पहचान करें।

Options :

✖ 1 : 3

✖ 5 : 3

✔ 3 : 2

✖ 2 : 3

Question Number : 166 Question Id : 7230532623 Question Type : MCQ Option Shuffling : Yes Display Question Number : Yes
Single Line Question Option : No Option Orientation : Vertical

Correct : 1 Wrong : 0.25

Who did the painting of "Bharatmata"?

Options :

✖ Ravi Varma Tagore

✖ Rabindranath Tagore

✖ Nandalal Bose

✔ Abhanindranath Tagore

Question Number : 166 Question Id : 7230532623 Question Type : MCQ Option Shuffling : Yes Display Question Number : Yes
Single Line Question Option : No Option Orientation : Vertical

Correct : 1 Wrong : 0.25

"भारत माता" की चित्रकला का निर्माण किसने किया था?

Options :

✖ रवि वर्मा टैगोर ने

✖ रबींद्रनाथ टैगोर ने

✖ नंदलाल बोस ने

✔ अभनींद्रनाथ टैगोर ने

Question Number : 167 Question Id : 7230532624 Question Type : MCQ Option Shuffling : Yes Display Question Number : Yes
Single Line Question Option : No Option Orientation : Vertical

Correct : 1 Wrong : 0.25

Who painted the famous mural "Medieval Saints" at the Hindi Bhavan in Shantiniketan?

Options :

- ✓ Benode Behari Mukherjee
- ✗ Clement Baptista
- ✗ KK Hebbar
- ✗ N. S. Bendre

Question Number : 167 Question Id : 7230532624 Question Type : MCQ Option Shuffling : Yes Display Question Number : Yes
Single Line Question Option : No Option Orientation : Vertical

Correct : 1 Wrong : 0.25

शांतिनिकेतन में हिंदी भवन में प्रसिद्ध भित्तिचित्र "मध्ययुगीन संत" को किसने चित्रित किया था?

Options :

- ✓ बिनोद बिहारी मुखर्जी
- ✗ क्लेमेंट बैप्टिस्टा
- ✗ के. के. हेब्बार
- ✗ एन. एस. बेंद्रे

Question Number : 168 Question Id : 7230532625 Question Type : MCQ Option Shuffling : Yes Display Question Number : Yes
Single Line Question Option : No Option Orientation : Vertical

Correct : 1 Wrong : 0.25

Who is current the Chairman of Lalit Kala Akademi, New Delhi?

Options :

- ✗ G. Ravinder Reddy
- ✓ Uttam Pacharne
- ✗ M. L. Srivasthava
- ✗ Vedala Ramakrishna

Question Number : 168 Question Id : 7230532625 Question Type : MCQ Option Shuffling : Yes Display Question Number : Yes
Single Line Question Option : No Option Orientation : Vertical

Correct : 1 Wrong : 0.25

ललित कला अकादमी, नई दिल्ली के वर्तमान अध्यक्ष कौन हैं?

Options :

- ✖ जी रविंदर रेड्डी
- ✔ उत्तम पाचारणे
- ✖ एम. एल. श्रीवास्तव
- ✖ वेदला रामकृष्ण

Question Number : 169 Question Id : 7230532626 Question Type : MCQ Option Shuffling : Yes Display Question Number : Yes
Single Line Question Option : No Option Orientation : Vertical

Correct : 1 Wrong : 0.25

Anupam Sud's work "of the walls" is a:

Identify from the given options.

Options :

- ✔ Lithograph
- ✖ Etching & Chincole
- ✖ Linocut
- ✖ Serigraphy

Question Number : 169 Question Id : 7230532626 Question Type : MCQ Option Shuffling : Yes Display Question Number : Yes
Single Line Question Option : No Option Orientation : Vertical

Correct : 1 Wrong : 0.25

अनुपम सूद का कार्य "दीवारों की" ("ऑफ़ द वॉल्स") क्या है?

दिये गए विकल्पों में से पहचान करें।

Options :

- ✔ शिला मुद्रण (लिथोग्राफ)
- ✖ नक्काशी और चिन कोले
- ✖ लिनोकट
- ✖ सेरिग्राफी

Question Number : 170 Question Id : 7230532627 Question Type : MCQ Option Shuffling : Yes Display Question Number : Yes
Single Line Question Option : No Option Orientation : Vertical
Correct : 1 Wrong : 0.25

Identify the painter who is famous for “Diagonal series” from the given options.

Options :

- ☐ Druv Mistry
- ☐ Bhupen Khakkar
- ☒ Tyeb Mehta
- ☐ V. Ramesh

Question Number : 170 Question Id : 7230532627 Question Type : MCQ Option Shuffling : Yes Display Question Number : Yes
Single Line Question Option : No Option Orientation : Vertical
Correct : 1 Wrong : 0.25

दिये गए विकल्पों में से उस चित्रकार की पहचान करें जो “विकर्ण श्रृंखला” के लिए प्रसिद्ध है।

Options :

- ☐ ध्रुव मिस्त्री
- ☐ भूपेन खक्कर
- ☒ तैयब मेहता
- ☐ वी. रमेश

Question Number : 171 Question Id : 7230532628 Question Type : MCQ Option Shuffling : Yes Display Question Number : Yes
Single Line Question Option : No Option Orientation : Vertical
Correct : 1 Wrong : 0.25

Name the Indian painter who got Golden bear for his documentary at International film festival at Berlin in 1999?

Options :

- ☐ Narasinga Rao
- ☒ M. F. Hussain
- ☐ Nalini Malini
- ☐ Ranbir Singh Kaleka

Question Number : 171 Question Id : 7230532628 Question Type : MCQ Option Shuffling : Yes Display Question Number : Yes
Single Line Question Option : No Option Orientation : Vertical

Correct : 1 Wrong : 0.25

उस भारतीय चित्रकार का नाम बताएँ जिसने 1999 में बर्लिन में अंतरराष्ट्रीय फिल्म फेस्टिवल में अपने वृत्त-चित्र के लिए गोल्डन बेअर पुरस्कार जीता था।

Options :

- ☐ नरसिंह राव
- ☒ एम. एफ. हुसैन
- ☐ नलिनी मालिनी
- ☐ रणबीर सिंह कालेका

Question Number : 172 Question Id : 7230532629 Question Type : MCQ Option Shuffling : Yes Display Question Number : Yes
Single Line Question Option : No Option Orientation : Vertical

Correct : 1 Wrong : 0.25

How many colours are there in Indian National Flag?

Options :

- ☐ Two
- ☐ Three
- ☒ Four
- ☐ Five

Question Number : 172 Question Id : 7230532629 Question Type : MCQ Option Shuffling : Yes Display Question Number : Yes
Single Line Question Option : No Option Orientation : Vertical

Correct : 1 Wrong : 0.25

भारतीय राष्ट्रीय ध्वज में कितने रंग हैं?

Options :

- ☐ दो
- ☐ तीन
- ☒ चार
- ☐ पाँच

Question Number : 173 Question Id : 7230532630 Question Type : MCQ Option Shuffling : Yes Display Question Number : Yes
Single Line Question Option : No Option Orientation : Vertical

Correct : 1 Wrong : 0.25

How many sizes of National Flag are indicated as per the Bureau of Indian Standards?

Options :

✖ 5

✖ 7

✔ 9

✖ 11

Question Number : 173 Question Id : 7230532630 Question Type : MCQ Option Shuffling : Yes Display Question Number : Yes
Single Line Question Option : No Option Orientation : Vertical

Correct : 1 Wrong : 0.25

भारतीय मानक ब्यूरो के अनुसार राष्ट्रीय ध्वज के कितने आकार इंगित किये गए हैं?

Options :

✖ 5

✖ 7

✔ 9

✖ 11

Question Number : 174 Question Id : 7230532631 Question Type : MCQ Option Shuffling : Yes Display Question Number : Yes
Single Line Question Option : No Option Orientation : Vertical

Correct : 1 Wrong : 0.25

The painting "Barwad woman" was executed by:

Identify from the given options.

Options :

✖ Jyothi Bhatt

✔ N. S. Bendre

✖ Shanti Dave

✖ K. G. Subramanian

Question Number : 174 Question Id : 7230532631 Question Type : MCQ Option Shuffling : Yes Display Question Number : Yes
Single Line Question Option : No Option Orientation : Vertical

Correct : 1 Wrong : 0.25

“बरवाद महिला” (Barwad woman) को किसके द्वारा निष्पादित किया गया था?
दिये गए विकल्पों में से पहचान करें।

Options :

- ✖ ज्योति भट्ट
- ✔ एन. एस. बेंद्रे
- ✖ शांति दवे
- ✖ के. जी. सुब्रमणियन

Question Number : 175 Question Id : 7230532632 Question Type : MCQ Option Shuffling : Yes Display Question Number : Yes
Single Line Question Option : No Option Orientation : Vertical

Correct : 1 Wrong : 0.25

Gallery Threshold is located at:

Identify from the given options.

Options :

- ✔ New Delhi
- ✖ Kolkata
- ✖ Bombay
- ✖ Chennai

Question Number : 175 Question Id : 7230532632 Question Type : MCQ Option Shuffling : Yes Display Question Number : Yes
Single Line Question Option : No Option Orientation : Vertical

Correct : 1 Wrong : 0.25

गैलरी थ्रेशहोल्ड कहाँ स्थित है?

दिये गए विकल्पों में से पहचान करें।

Options :

- ✔ नई दिल्ली
- ✖ कोलकाता
- ✖ मुंबई

✖ चेन्नई

Question Number : 176 Question Id : 7230532633 Question Type : MCQ Option Shuffling : Yes Display Question Number : Yes
Single Line Question Option : No Option Orientation : Vertical

Correct : 1 Wrong : 0.25

In whose reign the temple art reached the final stage of evolution?

Options :

✖ Guptas

✖ Pallavas

✖ Cholas

✔ Vijayanagara

Question Number : 176 Question Id : 7230532633 Question Type : MCQ Option Shuffling : Yes Display Question Number : Yes
Single Line Question Option : No Option Orientation : Vertical

Correct : 1 Wrong : 0.25

किसके शासनकाल में मंदिर कला विकास के अंतिम चरण तक पहुँच गई थी?

Options :

✖ गुप्त

✖ पल्लव

✖ चोल

✔ विजयनगर

Question Number : 177 Question Id : 7230532634 Question Type : MCQ Option Shuffling : Yes Display Question Number : Yes
Single Line Question Option : No Option Orientation : Vertical

Correct : 1 Wrong : 0.25

What is the the Purpose of British System of Art Education?

Options :

✖ To promote Indian Art

✔ For Academic realism

✖ To glorify Ajanta Murals

✖ To Promote Handicrafts

Question Number : 177 Question Id : 7230532634 Question Type : MCQ Option Shuffling : Yes Display Question Number : Yes
Single Line Question Option : No Option Orientation : Vertical

Correct : 1 Wrong : 0.25

कला शिक्षा का ब्रिटिश प्रणाली का क्या उद्देश्य है?

Options :

- ✖ भारतीय कला को बढ़ावा देना
- ✔ शैक्षिक यथार्थवाद के लिए
- ✖ अजंता के भित्तिचित्रों को महिमामंडित करना
- ✖ हस्तशिल्प को बढ़ावा देना

Question Number : 178 Question Id : 7230532635 Question Type : MCQ Option Shuffling : Yes Display Question Number : Yes
Single Line Question Option : No Option Orientation : Vertical

Correct : 1 Wrong : 0.25

Name the Englishman who suggested Raja Ravi Varma to combine Indian mythology and European Art?

Options :

- ✖ Tilley Kettle
- ✖ E. B. Havell
- ✔ Lord Napier
- ✖ Charles D'Oyly

Question Number : 178 Question Id : 7230532635 Question Type : MCQ Option Shuffling : Yes Display Question Number : Yes
Single Line Question Option : No Option Orientation : Vertical

Correct : 1 Wrong : 0.25

उस अंग्रेज़ का नाम बताएँ जिसने राजा रवि वर्मा को भारतीय पौराणिक कथाओं और यूरोपीय कला को संयोजित करने का सुझाव दिया था।

Options :

- ✖ टिली केटल (Tilley Kettle)
- ✖ ई. बी. हेवेल (E. B. Havell)
- ✔ लॉर्ड नेपियर (Lord Napier)

✖ चार्ल्स डी'ओइली (Charles D'Oyly)

Question Number : 179 Question Id : 7230532636 Question Type : MCQ Option Shuffling : Yes Display Question Number : Yes
Single Line Question Option : No Option Orientation : Vertical

Correct : 1 Wrong : 0.25

Which western art movement inspired Raja Ravi Varma to create his compositions?

Options :

✖ Renaissance

✖ Baroque

✖ Mannerism

✔ Neo classism

Question Number : 179 Question Id : 7230532636 Question Type : MCQ Option Shuffling : Yes Display Question Number : Yes
Single Line Question Option : No Option Orientation : Vertical

Correct : 1 Wrong : 0.25

किस पश्चिमी कला आंदोलन ने राजा रवि वर्मा को अपनी कृतियाँ रचने के लिए प्रेरित किया?

Options :

✖ पुनर्जागरण काल (रेनेसाँ काल)

✖ अतिअलंकृत (बरोक)

✖ व्यवहार वैचित्र्य (मैनेरिज़्म)

✔ नव-श्रेणीवाद (नियो क्लासिज़्म)

Question Number : 180 Question Id : 7230532637 Question Type : MCQ Option Shuffling : Yes Display Question Number : Yes
Single Line Question Option : No Option Orientation : Vertical

Correct : 1 Wrong : 0.25

When did the J.J. School of Art established?

Options :

✖ 1875

✔ 1857

✖ 1905

✖ 1947

Question Number : 180 Question Id : 7230532637 Question Type : MCQ Option Shuffling : Yes Display Question Number : Yes
Single Line Question Option : No Option Orientation : Vertical
Correct : 1 Wrong : 0.25

जे. जे. स्कूल ऑफ आर्ट की स्थापना कब हुई थी?

Options :

✖ 1875

✔ 1857

✖ 1905

✖ 1947

Group Number :	10
Group Id :	723053130
Group Maximum Duration :	0
Group Minimum Duration :	0
Revisit allowed for view? :	No
Revisit allowed for edit? :	No
Break time:	0
Group Marks:	20

Section Id :	723053130
Section Number :	1
Section type :	Online
Mandatory or Optional:	Mandatory
Number of Questions:	20
Number of Questions to be attempted:	20
Section Marks:	20
Display Number Panel:	Yes
Group All Questions:	No

Sub-Section Number:	1
Sub-Section Id:	723053181
Question Shuffling Allowed :	Yes

Question Number : 181 Question Id : 7230532638 Question Type : MCQ Option Shuffling : Yes Display Question Number : Yes
Single Line Question Option : No Option Orientation : Vertical
Correct : 1 Wrong : 0.25

The painting “Zameen” was created by:

Identify from the given options.

Options :

✓ M. F. Hussain

✗ S. H. Raza

✗ K. H. Ara

✗ H. A. Gade

Question Number : 181 Question Id : 7230532638 Question Type : MCQ Option Shuffling : Yes Display Question Number : Yes
Single Line Question Option : No Option Orientation : Vertical

Correct : 1 Wrong : 0.25

चित्रकला “ज़मीन” की रचना किस ने की थी?

दिये गए विकल्पों से पहचान करें।

Options :

✓ एम. एफ. हुसैन

✗ एस. एच. रज़ा

✗ के. एच. आरा

✗ एच. ए. गडे

Question Number : 182 Question Id : 7230532639 Question Type : MCQ Option Shuffling : Yes Display Question Number : Yes
Single Line Question Option : No Option Orientation : Vertical

Correct : 1 Wrong : 0.25

Public sculpture “At the hub of the things” was executed by:

Identify from the given options.

Options :

✓ Anish Kapoor

✗ D. P. Roy Chowdhury

✗ Sheela Gowda

✗ Nagji Patel

Question Number : 182 Question Id : 7230532639 Question Type : MCQ Option Shuffling : Yes Display Question Number : Yes
Single Line Question Option : No Option Orientation : Vertical

Correct : 1 Wrong : 0.25

सार्वजनिक मूर्तिकला "एट द हब ऑफ द थिंग्स" किसके द्वारा निष्पादित किया गया था?
दिये गए विकल्पों से पहचान करें।

Options :

- ✓ अनीश कपूर
- ✗ डी. पी. राय चौधरी
- ✗ शीला गौड़ा
- ✗ नागजी पटेल

Question Number : 183 Question Id : 7230532640 Question Type : MCQ Option Shuffling : Yes Display Question Number : Yes
Single Line Question Option : No Option Orientation : Vertical

Correct : 1 Wrong : 0.25

Who was the leader of Revivalist Art movement in India?

Options :

- ✓ Abhanindranath Tagore
- ✗ Nandalal Bose
- ✗ Rabindranath Tagore
- ✗ A. R. Chugutai

Question Number : 183 Question Id : 7230532640 Question Type : MCQ Option Shuffling : Yes Display Question Number : Yes
Single Line Question Option : No Option Orientation : Vertical

Correct : 1 Wrong : 0.25

भारत में पुनरुद्धार कला आंदोलन (रिवाइलिस्ट आर्ट मूवमेंट) के अधिनायक कौन थे?

Options :

- ✓ अभनींद्रनाथ टैगोर
- ✗ नंदलाल बोस
- ✗ रबींद्रनाथ टैगोर

✖ ए. आर. चुगुताई

Question Number : 184 Question Id : 7230532641 Question Type : MCQ Option Shuffling : Yes Display Question Number : Yes
Single Line Question Option : No Option Orientation : Vertical

Correct : 1 Wrong : 0.25

Name the Artist Who prepared Posters for Haripura Congress in 1930?

Options :

✖ Binod Bihari Mukherji

✖ Ramkinkar Vaij

✔ Nandalal Bose

✖ Jamini Roy

Question Number : 184 Question Id : 7230532641 Question Type : MCQ Option Shuffling : Yes Display Question Number : Yes
Single Line Question Option : No Option Orientation : Vertical

Correct : 1 Wrong : 0.25

उस चित्रकार का नाम बताएँ जिसने 1930 में हरिपुरा कांग्रेस के लिए पोस्टर्स का निर्माण किया था।

Options :

✖ बिनोद बिहारी मुखर्जी

✖ रामकिंकर वैज

✔ नंदलाल बोस

✖ जामिनी राँय

Question Number : 185 Question Id : 7230532642 Question Type : MCQ Option Shuffling : Yes Display Question Number : Yes
Single Line Question Option : No Option Orientation : Vertical

Correct : 1 Wrong : 0.25

Who was the Artist of the mural “King of the Dark Chamber”?

Options :

✖ K. Laxma Goud

✔ K. G. Subramanyan

✖ Binode Bihari Mukherji

✖ Jyothi Bhatt

Question Number : 185 Question Id : 7230532642 Question Type : MCQ Option Shuffling : Yes Display Question Number : Yes
Single Line Question Option : No Option Orientation : Vertical

Correct : 1 Wrong : 0.25

“स्याह कोष्ठ का राजा” (“किंग ऑफ़ द डार्क”) भित्तिचित्र के चित्रकार कौन थे?

Options :

✖ के. लक्ष्मा गौड

✓ के. जी. सुब्रमन्यन

✖ बिनोद बिहारी मुखर्जी

✖ ज्योति भट्ट

Question Number : 186 Question Id : 7230532643 Question Type : MCQ Option Shuffling : Yes Display Question Number : Yes
Single Line Question Option : No Option Orientation : Vertical

Correct : 1 Wrong : 0.25

Who is the master printmaker of Viscosity technique?

Options :

✖ Jyothi Bhatt

✖ Anupam Sud

✖ K. Laxma Gowd

✓ N. Krishna Reddy

Question Number : 186 Question Id : 7230532643 Question Type : MCQ Option Shuffling : Yes Display Question Number : Yes
Single Line Question Option : No Option Orientation : Vertical

Correct : 1 Wrong : 0.25

चिपचिपाहट तकनीक के दक्ष मुद्रणकार (प्रिंटेकर) कौन हैं?

Options :

✖ ज्योति भट्ट

✖ अनुपम सुद

✖ के. लक्ष्मा. गौड

✓ एन. कृष्णा. रेड्डी

Question Number : 187 Question Id : 7230532644 Question Type : MCQ Option Shuffling : Yes Display Question Number : Yes
Single Line Question Option : No Option Orientation : Vertical

Correct : 1 Wrong : 0.25

Identify the artist who painted the mural "Natir Puja" in China Bhavan

Options :

✓ Nandalal Bose

✗ Abhanindranath Tagore

✗ Amrita Sher-Gil

✗ Nirode Mujumdar

Question Number : 187 Question Id : 7230532644 Question Type : MCQ Option Shuffling : Yes Display Question Number : Yes
Single Line Question Option : No Option Orientation : Vertical

Correct : 1 Wrong : 0.25

उस चित्रकार की पहचान करें जिसने चीन भवन में भित्तिचित्र "नातीर पूजा" का चित्रण किया।

Options :

✓ नंदलाल बोस

✗ अभनींद्रनाथ टैगोर

✗ अमृता शेर गिल

✗ नीरोद मजूमदार

Question Number : 188 Question Id : 7230532645 Question Type : MCQ Option Shuffling : Yes Display Question Number : Yes
Single Line Question Option : No Option Orientation : Vertical

Correct : 1 Wrong : 0.25

Who among the following is associated with the "Wounds" series?

Options :

✗ Jogen Chowdhury

✗ Bhupen Khakkar

✗ Rameshwar Broota

✓ Somanath Hore

Question Number : 188 Question Id : 7230532645 Question Type : MCQ Option Shuffling : Yes Display Question Number : Yes
Single Line Question Option : No Option Orientation : Vertical

Correct : 1 Wrong : 0.25

निम्नलिखित में से कौन "घाव" (वूंड्स) श्रृंखला से संबद्ध है?

Options :

✗ जोगेन चौधरी (Jogen Chowdhury)

✗ भूपेन खक्कर

✗ रामेश्वर ब्रूटा

✓ सोमनाथ होरे

Question Number : 189 Question Id : 7230532646 Question Type : MCQ Option Shuffling : Yes Display Question Number : Yes
Single Line Question Option : No Option Orientation : Vertical

Correct : 1 Wrong : 0.25

In which period did the Indus Valley Civilisation exist?

Options :

✗ 1000 AD-1500 AD

✗ 35000 BC-25000 BC

✗ 25000 BC-15000 BC

✓ 2500 BC-1700 BC

Question Number : 189 Question Id : 7230532646 Question Type : MCQ Option Shuffling : Yes Display Question Number : Yes
Single Line Question Option : No Option Orientation : Vertical

Correct : 1 Wrong : 0.25

सिंधु घाटी सभ्यता किस काल में अस्तित्व में थी?

Options :

✗ 1000 ईसा पश्चात् - 1500 ईसा पश्चात्

✗ 35000 ईसा पूर्व - 25000 ईसा पूर्व

✗ 25000 ईसा पूर्व - 15000 ईसा पूर्व

✓ 2500 ईसा पूर्व - 1700 ईसा पूर्व

Question Number : 190 Question Id : 7230532647 Question Type : MCQ Option Shuffling : Yes Display Question Number : Yes
Single Line Question Option : No Option Orientation : Vertical

Correct : 1 Wrong : 0.25

Whom did the sculptures and artefacts discovered at Mohenjo Daro mostly belong to?

Options :

✗ The kings

✓ The upper class

✗ The rural class

✗ The wild life

Question Number : 190 Question Id : 7230532647 Question Type : MCQ Option Shuffling : Yes Display Question Number : Yes
Single Line Question Option : No Option Orientation : Vertical

Correct : 1 Wrong : 0.25

मोहनजोदाड़ो में खोजी गई मूर्तियाँ और कलाकृतियाँ अधिकांशतः किससे संबंधित थीं?

Options :

✗ राजाओं से

✓ उच्च वर्ग से

✗ ग्रामीण वर्ग से

✗ वन्य जीवन से

Question Number : 191 Question Id : 7230532648 Question Type : MCQ Option Shuffling : Yes Display Question Number : Yes
Single Line Question Option : No Option Orientation : Vertical

Correct : 1 Wrong : 0.25

Identify the correct dimensions of the great bath of Mohenjo Daro in length, width and depth respectively.

Options :

✓ 11.7 m × 6.9 m × 2.4 m

✗ 117 m × 69 m × 24 m

✗ 1170 m × 690 m × 24 m

✗ 1170 m × 690 m × 240 m

Question Number : 191 Question Id : 7230532648 Question Type : MCQ Option Shuffling : Yes Display Question Number : Yes
Single Line Question Option : No Option Orientation : Vertical

Correct : 1 Wrong : 0.25

मोहनजोदाड़ो के विशाल स्नानागार की क्रमशः लंबाई, चौड़ाई और गहराई के सही आयामों की पहचान करें।

Options :

✓ 11.7 m × 6.9 m × 2.4 m

✗ 117 m × 69 m × 24 m

✗ 1170 m × 690 m × 24 m

✗ 1170 m × 690 m × 240 m

Question Number : 192 Question Id : 7230532649 Question Type : MCQ Option Shuffling : Yes Display Question Number : Yes
Single Line Question Option : No Option Orientation : Vertical

Correct : 1 Wrong : 0.25

In which of these eras was the Amaravati Stupa erected?

Options :

✓ 2nd Century BC

✗ 1st Century BC

✗ 5th Century AD

✗ 1st Century AD

Question Number : 192 Question Id : 7230532649 Question Type : MCQ Option Shuffling : Yes Display Question Number : Yes
Single Line Question Option : No Option Orientation : Vertical

Correct : 1 Wrong : 0.25

इनमें से किस युग में अमरावती स्तूप का निर्माण हुआ था?

Options :

✓ दूसरी शताब्दी ईसा पूर्व

✗ पहली शताब्दी ईसा पूर्व

✗ पाँचवीं शताब्दी ईसा पश्चात्

✗ पहली शताब्दी ईसा पश्चात्

Question Number : 193 Question Id : 7230532650 Question Type : MCQ Option Shuffling : Yes Display Question Number : Yes
Single Line Question Option : No Option Orientation : Vertical

Correct : 1 Wrong : 0.25

The “Devasano Pado Kalpasutra” manuscript’s illustration was influenced by which of these art forms?

Options :

- ☐ African Art
- ☐ European Art
- ☒ Persian Art
- ☐ Indian Art

Question Number : 193 Question Id : 7230532650 Question Type : MCQ Option Shuffling : Yes Display Question Number : Yes
Single Line Question Option : No Option Orientation : Vertical

Correct : 1 Wrong : 0.25

"देवासनो पाडो कल्पसूत्र" हस्तलिपि का चित्रण इनमें से किस कला स्वरूप से प्रभावित था?

Options :

- ☐ अफ्रीकी कला
- ☐ यूरोपीय कला
- ☒ फ़ारसी कला
- ☐ भारतीय कला

Question Number : 194 Question Id : 7230532651 Question Type : MCQ Option Shuffling : Yes Display Question Number : Yes
Single Line Question Option : No Option Orientation : Vertical

Correct : 1 Wrong : 0.25

The mural painting “Temptation of Buddha” is located in the cave no:

Options :

- ☒ One
- ☐ Ten
- ☐ Nine
- ☐ Two

Question Number : 194 Question Id : 7230532651 Question Type : MCQ Option Shuffling : Yes Display Question Number : Yes
Single Line Question Option : No Option Orientation : Vertical

Correct : 1 Wrong : 0.25

भित्ति चित्रकला "बुद्ध का प्रलोभन" ("टेम्प्टेशन ऑफ बुद्ध") किस संख्या वाली गुफा में स्थित है?

Options :

✓ एक

✗ दस

✗ नौ

✗ दो

Question Number : 195 Question Id : 7230532652 Question Type : MCQ Option Shuffling : Yes Display Question Number : Yes
Single Line Question Option : No Option Orientation : Vertical

Correct : 1 Wrong : 0.25

Who among the following artists from the Bengal school was fascinated with the properties of light and spectrum and painted like the Cubists?

Options :

✗ Rabindranath Tagore

✗ Nandalal Bose

✓ Gaganendranath Tagore

✗ Asit Kumar Haldar

Question Number : 195 Question Id : 7230532652 Question Type : MCQ Option Shuffling : Yes Display Question Number : Yes
Single Line Question Option : No Option Orientation : Vertical

Correct : 1 Wrong : 0.25

बंगाल शैली (स्कूल) के निम्नलिखित कलाकारों में से कौन प्रकाश और वर्णक्रम (स्पेक्ट्रम) के गुणों के प्रति आकर्षित था और घन-चित्रण शैली (क्यूबिस्ट) की भांति चित्रकारी करता था?

Options :

✗ रबींद्रनाथ टैगोर

✗ नंदलाल बोस

✓ गगनेंद्रनाथ टैगोर

✗ असित कुमार हल्दर

Question Number : 196 Question Id : 7230532653 Question Type : MCQ Option Shuffling : Yes Display Question Number : Yes
Single Line Question Option : No Option Orientation : Vertical
Correct : 1 Wrong : 0.25

Identify the characteristic of Indian Art from the given options.

Options :

- ☐ Secular
- ☒ Narrative
- ☐ Abstract
- ☐ Graphical representation

Question Number : 196 Question Id : 7230532653 Question Type : MCQ Option Shuffling : Yes Display Question Number : Yes
Single Line Question Option : No Option Orientation : Vertical
Correct : 1 Wrong : 0.25

दिये गए विकल्पों में से भारतीय कला की विशेषता की पहचान करें?

Options :

- ☐ धर्म निरपेक्ष
- ☒ वर्णनात्मक
- ☐ अमूर्त
- ☐ रेखा-चित्रिय प्रदर्शन

Question Number : 197 Question Id : 7230532654 Question Type : MCQ Option Shuffling : Yes Display Question Number : Yes
Single Line Question Option : No Option Orientation : Vertical
Correct : 1 Wrong : 0.25

What does "Tangka" mean?

Options :

- ☐ Fresco Paintings
- ☐ Coins
- ☒ Temple Banners
- ☐ Seals

Question Number : 197 Question Id : 7230532654 Question Type : MCQ Option Shuffling : Yes Display Question Number : Yes
Single Line Question Option : No Option Orientation : Vertical
Correct : 1 Wrong : 0.25

“तांगका” का क्या अर्थ है?

Options :

- ✖ भित्ति चित्र (फ्रेस्को पेंटिंग)
- ✖ सिक्के
- ✓ मंदिर की पताकाएँ (बैनर्स)
- ✖ मोहरें

Question Number : 198 Question Id : 7230532655 Question Type : MCQ Option Shuffling : Yes Display Question Number : Yes
Single Line Question Option : No Option Orientation : Vertical

Correct : 1 Wrong : 0.25

Which of the following motifs often appear in the seals found at Indus Valley?

Options :

- ✓ Bull
- ✖ Elephant
- ✖ Antelope
- ✖ Crocodile

Question Number : 198 Question Id : 7230532655 Question Type : MCQ Option Shuffling : Yes Display Question Number : Yes
Single Line Question Option : No Option Orientation : Vertical

Correct : 1 Wrong : 0.25

सिंधु घाटी में पाई गई मोहरों में प्रायः कौन सा रूपांकन दृष्टव्य होता है?

Options :

- ✓ बैल
- ✖ हाथी
- ✖ मृग
- ✖ मगरमच्छ

Question Number : 199 Question Id : 7230532656 Question Type : MCQ Option Shuffling : Yes Display Question Number : Yes
Single Line Question Option : No Option Orientation : Vertical

Correct : 1 Wrong : 0.25

What is the other name of the Company school?

Options :

- ✓ Patna school
- ✗ British East India school
- ✗ Zamindari School
- ✗ Kalighat school

Question Number : 199 Question Id : 7230532656 Question Type : MCQ Option Shuffling : Yes Display Question Number : Yes
Single Line Question Option : No Option Orientation : Vertical

Correct : 1 Wrong : 0.25

कंपनी शैली (स्कूल) का दूसरा नाम क्या है?

Options :

- ✓ पटना शैली (स्कूल)
- ✗ ब्रिटिश ईस्ट इंडिया शैली (स्कूल)
- ✗ जमींदारी शैली (स्कूल)
- ✗ कालीघाट शैली (स्कूल)

Question Number : 200 Question Id : 7230532657 Question Type : MCQ Option Shuffling : Yes Display Question Number : Yes
Single Line Question Option : No Option Orientation : Vertical

Correct : 1 Wrong : 0.25

Who built the Red fort?

Options :

- ✓ Shahjahan
- ✗ Jahangir
- ✗ Humayun
- ✗ Aurangzeb

Question Number : 200 Question Id : 7230532657 Question Type : MCQ Option Shuffling : Yes Display Question Number : Yes
Single Line Question Option : No Option Orientation : Vertical

Correct : 1 Wrong : 0.25

लाल क़िले का निर्माण किसने करवाया था?

Options :

✓ शाहजहाँ ने

✗ जहाँगीर ने

✗ हुमायूँ ने

✗ औरंगज़ेब ने

Subject Related

Group Number :	11
Group Id :	723053131
Group Maximum Duration :	0
Group Minimum Duration :	0
Revisit allowed for view? :	No
Revisit allowed for edit? :	No
Break time:	0
Group Marks:	20

Subject Related

Section Id :	723053131
Section Number :	1
Section type :	Online
Mandatory or Optional:	Mandatory
Number of Questions:	20
Number of Questions to be attempted:	20
Section Marks:	20
Display Number Panel:	Yes
Group All Questions:	No

Sub-Section Number:	1
Sub-Section Id:	723053182
Question Shuffling Allowed :	Yes

Question Number : 201 Question Id : 7230532658 Question Type : MCQ Option Shuffling : Yes Display Question Number : Yes
Single Line Question Option : No Option Orientation : Vertical
Correct : 1 Wrong : 0.25

Which material is used to make Ceremonial Images?

Options :

✗ Wood

✖ Clay

✔ Bronze

✖ Gold

Question Number : 201 Question Id : 7230532658 Question Type : MCQ Option Shuffling : Yes Display Question Number : Yes
Single Line Question Option : No Option Orientation : Vertical

Correct : 1 Wrong : 0.25

आनुष्ठानिक (सेरिमोनियल) आकृतियों का निर्माण करने के लिए किस सामग्री का प्रयोग किया जाता है?

Options :

✖ लकड़ी का

✖ चिकनी मिट्टी का

✔ कांस्य का

✖ स्वर्ण का

Question Number : 202 Question Id : 7230532659 Question Type : MCQ Option Shuffling : Yes Display Question Number : Yes
Single Line Question Option : No Option Orientation : Vertical

Correct : 1 Wrong : 0.25

To which tradition does the manuscript illustration of Pancharaksha-sutra belong to?

Options :

✖ Deccan miniature

✖ Mughal miniature

✖ Jain miniature

✔ Pala miniature

Question Number : 202 Question Id : 7230532659 Question Type : MCQ Option Shuffling : Yes Display Question Number : Yes
Single Line Question Option : No Option Orientation : Vertical

Correct : 1 Wrong : 0.25

पंच रक्षा-सूत्र की हस्तलिपि का चित्रण किस परंपरा से संबंधित है?

Options :

✖ दक्खिन (डेक्कन) लघु चित्रकारी से

- ✖ मुगल लघु चित्रकारी से
- ✖ जैन लघु चित्रकारी से
- ✔ पाल लघु चित्रकारी से

Question Number : 203 Question Id : 7230532660 Question Type : MCQ Option Shuffling : Yes Display Question Number : Yes
Single Line Question Option : No Option Orientation : Vertical

Correct : 1 Wrong : 0.25

Which Deccani school is famous for its dance scenes?

Options :

- ✖ Bidar
- ✖ Bijapur
- ✖ Ahmednagar
- ✔ Golconda

Question Number : 203 Question Id : 7230532660 Question Type : MCQ Option Shuffling : Yes Display Question Number : Yes
Single Line Question Option : No Option Orientation : Vertical

Correct : 1 Wrong : 0.25

कौन सा दक्खिन (डेक्कन) शैली अपने नृत्य दृश्यों के लिए प्रसिद्ध है?

Options :

- ✖ बीदर
- ✖ बीजापुर
- ✖ अहमदनगर
- ✔ गोलकोंडा

Question Number : 204 Question Id : 7230532661 Question Type : MCQ Option Shuffling : Yes Display Question Number : Yes
Single Line Question Option : No Option Orientation : Vertical

Correct : 1 Wrong : 0.25

Which of the following is NOT a characteristic of the Patna School of Painting?

Options :

- ✖ Sepia wash

✓ Studying Ajanta mural

✗ Cross hatching

✗ Use of new materials

Question Number : 204 Question Id : 7230532661 Question Type : MCQ Option Shuffling : Yes Display Question Number : Yes
Single Line Question Option : No Option Orientation : Vertical

Correct : 1 Wrong : 0.25

निम्नलिखित में से क्या पटना शैली की चित्रकारी (पटना स्कूल ऑफ़ पेंटिंग) की विशेषता नहीं है?

Options :

✗ सीपिया जलरंग (Sepia wash)

✓ अजंता के भित्ति चित्र का अध्ययन

✗ आड़ा-खड़ा चित्रांकन (क्रॉस हैचिंग)

✗ नवीन पदार्थों का प्रयोग

Question Number : 205 Question Id : 7230532662 Question Type : MCQ Option Shuffling : Yes Display Question Number : Yes
Single Line Question Option : No Option Orientation : Vertical

Correct : 1 Wrong : 0.25

Which of the following painters does NOT belong to the Akbar school of Painting?

Options :

✗ Basawan

✗ Daswanth

✗ Kesudasa

✓ Abul Hasan

Question Number : 205 Question Id : 7230532662 Question Type : MCQ Option Shuffling : Yes Display Question Number : Yes
Single Line Question Option : No Option Orientation : Vertical

Correct : 1 Wrong : 0.25

निम्नलिखित में से कौन सा चित्रकार अकबर शैली की चित्रकारी (अकबर स्कूल ऑफ़ पेंटिंग) से संबंधित नहीं है?

Options :

✗ बसावन

✖ दसवंत

✖ केसू दास

✔ अबुल हसन

Question Number : 206 Question Id : 7230532663 Question Type : MCQ Option Shuffling : Yes Display Question Number : Yes
Single Line Question Option : No Option Orientation : Vertical

Correct : 1 Wrong : 0.25

What is the other name of the Rajasthani style of Rajput painting?

Options :

✔ Jeypore kalam

✖ Mandu kalam

✖ Kishangarh kalam

✖ Delhi kalam

Question Number : 206 Question Id : 7230532663 Question Type : MCQ Option Shuffling : Yes Display Question Number : Yes
Single Line Question Option : No Option Orientation : Vertical

Correct : 1 Wrong : 0.25

राजस्थानी शैली की राजपूत चित्रकला का दूसरा नाम क्या है?

Options :

✔ जयपोर कलाम (Jeypore kalam)

✖ मांडू कलाम (Mandu kalam)

✖ किशनगढ़ कलाम (Kishangarh kalam)

✖ दिल्ली कलाम (Delhi kalam)

Question Number : 207 Question Id : 7230532664 Question Type : MCQ Option Shuffling : Yes Display Question Number : Yes
Single Line Question Option : No Option Orientation : Vertical

Correct : 1 Wrong : 0.25

Palm leaf illustrative manuscript "Pancha Vimsatisahasrika" belongs to which of these schools?

Options :

✔ Pala school

- ✖ Jain school
- ✖ Hindu School
- ✖ Mughal school

Question Number : 207 Question Id : 7230532664 Question Type : MCQ Option Shuffling : Yes Display Question Number : Yes
Single Line Question Option : No Option Orientation : Vertical

Correct : 1 Wrong : 0.25

ताड़ पत्र चित्रकारी पांडुलिपि “पंच विंशतिसहस्रिका” इन शैलियों में से किस से संबंधित है?

Options :

- ✔ ताड़ शैली
- ✖ जैन शैली
- ✖ हिन्दू शैली
- ✖ मुगल शैली

Question Number : 208 Question Id : 7230532665 Question Type : MCQ Option Shuffling : Yes Display Question Number : Yes
Single Line Question Option : No Option Orientation : Vertical

Correct : 1 Wrong : 0.25

Identify the Rajput school which rejected Mughal conventions in their paintings.

Options :

- ✖ Mewar
- ✔ Basholi
- ✖ Jeypore
- ✖ Kangra

Question Number : 208 Question Id : 7230532665 Question Type : MCQ Option Shuffling : Yes Display Question Number : Yes
Single Line Question Option : No Option Orientation : Vertical

Correct : 1 Wrong : 0.25

उस राजपूत शैली की पहचान करें जिसने अपने चित्रों में मुगलों की परंपराओं को अस्वीकृत कर दिया था?

Options :

- ✖ मेवाड़

✓ बशोली

✗ जयपुर

✗ कांगड़ा

Question Number : 209 Question Id : 7230532666 Question Type : MCQ Option Shuffling : Yes Display Question Number : Yes
Single Line Question Option : No Option Orientation : Vertical

Correct : 1 Wrong : 0.25

Identify the school which have the affiliation to Safavid style.

Options :

✗ Babur

✗ Humayun

✓ Akbar

✗ Jahangir

Question Number : 209 Question Id : 7230532666 Question Type : MCQ Option Shuffling : Yes Display Question Number : Yes
Single Line Question Option : No Option Orientation : Vertical

Correct : 1 Wrong : 0.25

उस शैली की पहचान करें जिसका सफ़ाविद शैली से संबंध है?

Options :

✗ बाबर

✗ हुमाँयूँ

✓ अकबर

✗ जहाँगीर

Question Number : 210 Question Id : 7230532667 Question Type : MCQ Option Shuffling : Yes Display Question Number : Yes
Single Line Question Option : No Option Orientation : Vertical

Correct : 1 Wrong : 0.25

Which emperor's period was known as the Golden Period of Indian Painting?

Options :

✗ Akbar

- ✓ Jahangir
- ✗ Shahjahan
- ✗ Aurangzeb

Question Number : 210 Question Id : 7230532667 Question Type : MCQ Option Shuffling : Yes Display Question Number : Yes
Single Line Question Option : No Option Orientation : Vertical
Correct : 1 Wrong : 0.25

किस सम्राट के काल को भारतीय चित्रकारी के स्वर्ण काल के रूप में जाना जाता था?

Options :

- ✗ अकबर
- ✓ जहाँगीर
- ✗ शाहजहाँ
- ✗ औरंगज़ेब

Question Number : 211 Question Id : 7230532668 Question Type : MCQ Option Shuffling : Yes Display Question Number : Yes
Single Line Question Option : No Option Orientation : Vertical
Correct : 1 Wrong : 0.25

Name the Indian artist who combined images from Basholi, Ajanta and Bright palette of Paul Gauguin?

Options :

- ✗ Kanwal Krishna
- ✓ Amrita Sher-Gil
- ✗ Anjolie Ela Menon
- ✗ Neelima Shaik

Question Number : 211 Question Id : 7230532668 Question Type : MCQ Option Shuffling : Yes Display Question Number : Yes
Single Line Question Option : No Option Orientation : Vertical
Correct : 1 Wrong : 0.25

उस भारतीय कलाकार का नाम बताएँ जिसने पॉल गौगुइन के बशोली, अजंता और कांतिमान रंगपट्टिका (ब्राइट पैलेट) की छवियों को संयोजित किया?

Options :

- ✗ कंवल कृष्णा

✓ अमृता शेर-गिल

✗ एंजोली इला मेनन

✗ नीलिमा शेख

Question Number : 212 Question Id : 7230532669 Question Type : MCQ Option Shuffling : Yes Display Question Number : Yes
Single Line Question Option : No Option Orientation : Vertical

Correct : 1 Wrong : 0.25

Which of the following is the earliest artists' group?

Options :

✗ Progressive group

✓ Turks

✗ Calcutta group

✗ Bengal group

Question Number : 212 Question Id : 7230532669 Question Type : MCQ Option Shuffling : Yes Display Question Number : Yes
Single Line Question Option : No Option Orientation : Vertical

Correct : 1 Wrong : 0.25

निम्नलिखित में से कौन सा समूह सबसे पहला कलाकार-समूह है?

Options :

✗ प्रगतिशील समूह

✓ तुर्क

✗ कलकत्ता समूह

✗ बंगाल समूह

Question Number : 213 Question Id : 7230532670 Question Type : MCQ Option Shuffling : Yes Display Question Number : Yes
Single Line Question Option : No Option Orientation : Vertical

Correct : 1 Wrong : 0.25

Who painted "Water Lilies"?

Options :

✗ Manjit Bawa

✓ A. Ramachandran

✗ Shakti Burman

✗ Jatin das

Question Number : 213 Question Id : 7230532670 Question Type : MCQ Option Shuffling : Yes Display Question Number : Yes
Single Line Question Option : No Option Orientation : Vertical

Correct : 1 Wrong : 0.25

“जल कुमुदिनी” (“वाटर लिली”) का चित्रण किसने किया था?

Options :

✗ मंजीत बावा ने

✓ ए. रामचंद्रन ने

✗ शक्ति बर्मन ने

✗ जतिन दास ने

Question Number : 214 Question Id : 7230532671 Question Type : MCQ Option Shuffling : Yes Display Question Number : Yes
Single Line Question Option : No Option Orientation : Vertical

Correct : 1 Wrong : 0.25

Whose work is “Woman on Rickshaw”?

Options :

✓ Tyeb Mehta

✗ Ranbir Kakela

✗ Arpita Singh

✗ K.K. Hebbar

Question Number : 214 Question Id : 7230532671 Question Type : MCQ Option Shuffling : Yes Display Question Number : Yes
Single Line Question Option : No Option Orientation : Vertical

Correct : 1 Wrong : 0.25

“वुमन ऑन रिक्शा” किसकी कृति है?

Options :

✓ तय्यब मेहता की

- ✖ रणबीर ककेला की
- ✖ अर्पिता सिंह की
- ✖ के. के. हेब्बार की

Question Number : 215 Question Id : 7230532672 Question Type : MCQ Option Shuffling : Yes Display Question Number : Yes
Single Line Question Option : No Option Orientation : Vertical

Correct : 1 Wrong : 0.25

Which of these trees appeared a lot in Indus Valley Art?

Options :

- ✖ Pomegranate Tree
- ✖ Banana Tree
- ✖ Mango tree
- ✔ Banyan Tree

Question Number : 215 Question Id : 7230532672 Question Type : MCQ Option Shuffling : Yes Display Question Number : Yes
Single Line Question Option : No Option Orientation : Vertical

Correct : 1 Wrong : 0.25

सिंधु घाटी कला में इनमें से कौन सा पेड़ अत्यधिक दृष्टव्य होता है?

Options :

- ✖ अनार का पेड़
- ✖ केले का पेड़
- ✖ आम का पेड़
- ✔ बरगद का पेड़

Question Number : 216 Question Id : 7230532673 Question Type : MCQ Option Shuffling : Yes Display Question Number : Yes
Single Line Question Option : No Option Orientation : Vertical

Correct : 1 Wrong : 0.25

In which year was the Progressive Artists' group formed?

Options :

- ✔ 1947

✖ 1948

✖ 1949

✖ 1956

Question Number : 216 Question Id : 7230532673 Question Type : MCQ Option Shuffling : Yes Display Question Number : Yes
Single Line Question Option : No Option Orientation : Vertical

Correct : 1 Wrong : 0.25

प्रगतिशील कलाकार समूह का गठन किस वर्ष हुआ था?

Options :

✔ 1947 में

✖ 1948 में

✖ 1949 में

✖ 1956 में

Question Number : 217 Question Id : 7230532674 Question Type : MCQ Option Shuffling : Yes Display Question Number : Yes
Single Line Question Option : No Option Orientation : Vertical

Correct : 1 Wrong : 0.25

Who painted "Malabar Beauty" in oils?

Options :

✖ SM Pandit

✔ Raja Ravi Varma

✖ Raja Raja Verma

✖ Theodore Johnson

Question Number : 217 Question Id : 7230532674 Question Type : MCQ Option Shuffling : Yes Display Question Number : Yes
Single Line Question Option : No Option Orientation : Vertical

Correct : 1 Wrong : 0.25

तैल-रंगों में "मालाबार ब्यूटी" किसने चित्रित किया था?

Options :

✖ एस. एम. पंडित ने

- ✓ राजा रवि वर्मा ने
- ✗ राजा राजा वर्मा ने
- ✗ थिओडोर जॉनसन ने

Question Number : 218 Question Id : 7230532675 Question Type : MCQ Option Shuffling : Yes Display Question Number : Yes
Single Line Question Option : No Option Orientation : Vertical

Correct : 1 Wrong : 0.25

In whose court was Mohammed Fakirullah Khan the chief artist?

Options :

- ✗ Akbar
- ✗ Jahangir
- ✓ Shahjahan
- ✗ Humayun

Question Number : 218 Question Id : 7230532675 Question Type : MCQ Option Shuffling : Yes Display Question Number : Yes
Single Line Question Option : No Option Orientation : Vertical

Correct : 1 Wrong : 0.25

मोहम्मद फकीरुल्लाह खान किसके राज-दरबार में मुख्य कलाकार थे?

Options :

- ✗ अकबर के
- ✗ जहाँगीर के
- ✓ शाहजहाँ के
- ✗ हुमायूँ के

Question Number : 219 Question Id : 7230532676 Question Type : MCQ Option Shuffling : Yes Display Question Number : Yes
Single Line Question Option : No Option Orientation : Vertical

Correct : 1 Wrong : 0.25

Who among the following was a woman painter of the Mughal court?

Options :

- ✗ Razia begum

✓ Sahifah Banu

✗ Noorjahan

✗ Talat

Question Number : 219 Question Id : 7230532676 Question Type : MCQ Option Shuffling : Yes Display Question Number : Yes
Single Line Question Option : No Option Orientation : Vertical

Correct : 1 Wrong : 0.25

निम्नलिखित में से कौन मुगल राज-दरबार की महिला चित्रकार थी?

Options :

✗ रज़िया बेगम

✓ साहिफा बानू

✗ नूरजहाँ

✗ तलत

Question Number : 220 Question Id : 7230532677 Question Type : MCQ Option Shuffling : Yes Display Question Number : Yes
Single Line Question Option : No Option Orientation : Vertical

Correct : 1 Wrong : 0.25

Which of the following qualities is lacking in Ajanta Murals?

Options :

✗ Multiplicity of perspective

✓ Linear perspective

✗ Law of frontality

✗ Dynamism

Question Number : 220 Question Id : 7230532677 Question Type : MCQ Option Shuffling : Yes Display Question Number : Yes
Single Line Question Option : No Option Orientation : Vertical

Correct : 1 Wrong : 0.25

अजंता के भित्ति चित्रों में निम्नलिखित में से किस गुण की कमी है?

Options :

✗ परिप्रेक्ष्य के बहुतायत की

✓

रेखीय परिदृश्य की

✖

सम्मुखीय नियम (लॉ ऑफ़ फ्रंटैलिटी (Law of frontality)) की

✖

गतिशीलता की

	Subject Related
Group Number :	12
Group Id :	723053132
Group Maximum Duration :	0
Group Minimum Duration :	0
Revisit allowed for view? :	No
Revisit allowed for edit? :	No
Break time:	0
Group Marks:	20

	Subject Related
Section Id :	723053132
Section Number :	1
Section type :	Online
Mandatory or Optional:	Mandatory
Number of Questions:	20
Number of Questions to be attempted:	20
Section Marks:	20
Display Number Panel:	Yes
Group All Questions:	No

Sub-Section Number:	1
Sub-Section Id:	723053183
Question Shuffling Allowed :	Yes

Question Number : 221

Question Id : 7230532678

Question Type : MCQ

Option Shuffling : Yes

Display Question Number : Yes

Single Line Question Option : No

Option Orientation : Vertical

Correct : 1

Wrong : 0.25

Who among the following was involved in painting the manuscript illustrations of Hamzanama, that was commissioned by Akbar?

Options :

✖

Govardhan

✖

Basavan

✖

Bihazad

✓ Mir Sayyid Ali

Question Number : 221 Question Id : 7230532678 Question Type : MCQ Option Shuffling : Yes Display Question Number : Yes
Single Line Question Option : No Option Orientation : Vertical

Correct : 1 Wrong : 0.25

निम्नलिखित में से कौन अकबर द्वारा प्रमाणित हम्ज़नामा के पांडुलिपि चित्रों को चित्रित करने में सम्मिलित था?

Options :

✗ गोवर्धन

✗ बसावन

✗ बिहाज़द

✓ मीर सईद अली

Question Number : 222 Question Id : 7230532679 Question Type : MCQ Option Shuffling : Yes Display Question Number : Yes
Single Line Question Option : No Option Orientation : Vertical

Correct : 1 Wrong : 0.25

Name the painter who did a "Kali" series?

Options :

✗ A. Ramachandran

✓ Tyeb Mehta

✗ Sunil Das

✗ K. Laxma Goud

Question Number : 222 Question Id : 7230532679 Question Type : MCQ Option Shuffling : Yes Display Question Number : Yes
Single Line Question Option : No Option Orientation : Vertical

Correct : 1 Wrong : 0.25

उस चित्रकार का नाम बताएँ जिसने "काली" श्रृंखला चित्रित की?

Options :

✗ ए. रामचंद्रन

✓ तय्यब मेहता

✗ सुनील दास

✖ के. लक्ष्मा गौड

Question Number : 223 Question Id : 7230532680 Question Type : MCQ Option Shuffling : Yes Display Question Number : Yes
Single Line Question Option : No Option Orientation : Vertical

Correct : 1 Wrong : 0.25

Who built the temple of Gangaikonda Cholapuram ?

Options :

✖ Raja Raja I

✔ Rajendra Chola

✖ Kulottunga Chola

✖ Raja Raja II

Question Number : 223 Question Id : 7230532680 Question Type : MCQ Option Shuffling : Yes Display Question Number : Yes
Single Line Question Option : No Option Orientation : Vertical

Correct : 1 Wrong : 0.25

गंगाईकोंडा चोलापुरम् के मंदिर का निर्माण किसने करवाया था?

Options :

✖ राजा राजा प्रथम ने

✔ राजेंद्र चोल ने

✖ कुलोत्तुंग चोल ने

✖ राजा राजा द्वितीय ने

Question Number : 224 Question Id : 7230532681 Question Type : MCQ Option Shuffling : Yes Display Question Number : Yes
Single Line Question Option : No Option Orientation : Vertical

Correct : 1 Wrong : 0.25

In which art form did the first image of Buddha in Stone appear?

Options :

✖ Maurya Art

✖ Sunga Art

✔ Mathura Art

✖ Gupta Art

Question Number : 224 Question Id : 7230532681 Question Type : MCQ Option Shuffling : Yes Display Question Number : Yes
Single Line Question Option : No Option Orientation : Vertical

Correct : 1 Wrong : 0.25

पत्थर में बुद्ध की पहली छवि किस कला रूप में दृष्टव्य होती है?

Options :

✖ मौर्य कला में

✖ शुंग कला में

✓ मथुरा कला में

✖ गुप्त कला में

Question Number : 225 Question Id : 7230532682 Question Type : MCQ Option Shuffling : Yes Display Question Number : Yes
Single Line Question Option : No Option Orientation : Vertical

Correct : 1 Wrong : 0.25

Identify the option that gives the correct chronological order of the Indian temples.

Options :

✓ Parasuramesvara, Muktheesvara, Lingaraja, Rajarani, Konark

✖ Muktheesvara, Konark, Parasuramesvara, Lingaraja, Rajarani ,

✖ Konark, Muktheesvara, Rajarani, Lingaraja, Parasuramesvara

✖ Rajarani, Konark , Parasuramesvara, Muktheesvara, Lingaraja,

Question Number : 225 Question Id : 7230532682 Question Type : MCQ Option Shuffling : Yes Display Question Number : Yes
Single Line Question Option : No Option Orientation : Vertical

Correct : 1 Wrong : 0.25

उस विकल्प की पहचान करें जो भारतीय मंदिरों का सही कालानुक्रमिक क्रम प्रदान करता है?

Options :

✓ परशुरामेश्वर, मुक्तेश्वर, लिंगराज, राजारानी, कोणार्क

✖ मुक्तेश्वर, कोणार्क, परशुरामेश्वर, लिंगराज, राजारानी

✖ कोणार्क, मुक्तेश्वर, राजारानी, लिंगराज, परशुरामेश्वर

✖ राजारानी, कोणार्क, परशुरामेश्वर, मुक्तेश्वर, लिंगराज

Question Number : 226 Question Id : 7230532683 Question Type : MCQ Option Shuffling : Yes Display Question Number : Yes
Single Line Question Option : No Option Orientation : Vertical

Correct : 1 Wrong : 0.25

Where is Mattancheri palace situated?

Options :

✖ Tanjore

✓ Cochin

✖ Meerut

✖ Thiruvananthapuram

Question Number : 226 Question Id : 7230532683 Question Type : MCQ Option Shuffling : Yes Display Question Number : Yes
Single Line Question Option : No Option Orientation : Vertical

Correct : 1 Wrong : 0.25

मट्टनशेरी / मट्टनचेरी महल कहाँ स्थित है?

Options :

✖ तंजावुर में

✓ कोचीन में

✖ मेरठ में

✖ तिरुवनंतपुरम् में

Question Number : 227 Question Id : 7230532684 Question Type : MCQ Option Shuffling : Yes Display Question Number : Yes
Single Line Question Option : No Option Orientation : Vertical

Correct : 1 Wrong : 0.25

Which of the following styles strongly influenced the Deccani school of painting?

Options :

✖ Ajanta style

✖ Mughal style

✖ Rajput style

✔ Vijayanagara style

Question Number : 227 Question Id : 7230532684 Question Type : MCQ Option Shuffling : Yes Display Question Number : Yes
Single Line Question Option : No Option Orientation : Vertical

Correct : 1 Wrong : 0.25

निम्नलिखित शैलियों में से किस शैली ने चित्रकला की दक्खिनी शैली को प्रभावशाली ढंग से प्रभावित किया है?

Options :

✖ अजंता शैली ने

✖ मुगल शैली ने

✖ राजपूत शैली ने

✔ विजयनगर शैली ने

Question Number : 228 Question Id : 7230532685 Question Type : MCQ Option Shuffling : Yes Display Question Number : Yes
Single Line Question Option : No Option Orientation : Vertical

Correct : 1 Wrong : 0.25

The art of rock-cut temples reached its height during the reign of which of the following dynasties?

Options :

✔ Pallavas

✖ Chalukyas

✖ Rashtrakutas

✖ Cholas

Question Number : 228 Question Id : 7230532685 Question Type : MCQ Option Shuffling : Yes Display Question Number : Yes
Single Line Question Option : No Option Orientation : Vertical

Correct : 1 Wrong : 0.25

निम्नलिखित राजवंशों में से किसके शासनकाल के दौरान पत्थरों को काट कर मंदिर निर्मित करने की कला अपने चरम तक पहुँच गई थी?

Options :

✔ पल्लव के

✖ चालुक्य के

✖ राष्ट्रकूट के

✖ चोल के

Question Number : 229 Question Id : 7230532686 Question Type : MCQ Option Shuffling : Yes Display Question Number : Yes
Single Line Question Option : No Option Orientation : Vertical

Correct : 1 Wrong : 0.25

Dilwara temples at Abu are famous for its:

Identify from the given options.

Options :

✖ Buddhists

✔ Jains

✖ Hindus

✖ Christians

Question Number : 229 Question Id : 7230532686 Question Type : MCQ Option Shuffling : Yes Display Question Number : Yes
Single Line Question Option : No Option Orientation : Vertical

Correct : 1 Wrong : 0.25

दिये गए विकल्पों में से पहचान करें।

अबू में दिलवाड़ा मंदिर किस के लिए प्रसिद्ध है?

Options :

✖ बौद्धों के लिए

✔ जैनियों के लिए

✖ हिन्दुओं के लिए

✖ ईसाईयों के लिए

Question Number : 230 Question Id : 7230532687 Question Type : MCQ Option Shuffling : Yes Display Question Number : Yes
Single Line Question Option : No Option Orientation : Vertical

Correct : 1 Wrong : 0.25

Which of the following was discovered at Indus Valley?

Options :

✖ Metal statues

✓ Seals

✗ Toys

✗ Terracotta figures

Question Number : 230 Question Id : 7230532687 Question Type : MCQ Option Shuffling : Yes Display Question Number : Yes
Single Line Question Option : No Option Orientation : Vertical

Correct : 1 Wrong : 0.25

सिंधु घाटी में निम्नलिखित में से किसकी खोज की गई थी?

Options :

✗ धातु की मूर्तियों की

✓ मोहरों की

✗ खिलौनों की

✗ टेराकोटा आकृतियों की

Question Number : 231 Question Id : 7230532688 Question Type : MCQ Option Shuffling : Yes Display Question Number : Yes
Single Line Question Option : No Option Orientation : Vertical

Correct : 1 Wrong : 0.25

On the banks of which river were the ruins of Mohenjo-Daro discovered?

Options :

✓ Indus

✗ Ravi

✗ Saraswati

✗ Narmada

Question Number : 231 Question Id : 7230532688 Question Type : MCQ Option Shuffling : Yes Display Question Number : Yes
Single Line Question Option : No Option Orientation : Vertical

Correct : 1 Wrong : 0.25

मोहनजोदाड़ो के खंडहर किस नदी के तट पर पाये गए थे?

Options :

✓ सिंधु

- ✖ रावी
- ✖ सरस्वती
- ✖ नर्मदा

Question Number : 232 Question Id : 7230532689 Question Type : MCQ Option Shuffling : Yes Display Question Number : Yes
Single Line Question Option : No Option Orientation : Vertical
Correct : 1 Wrong : 0.25

What does the term 'Mohenjo Daro' mean?

- Options :
- ✔ Place of the dead

- ✖ Sacred temple
- ✖ Great culture
- ✖ Confluence of rivers

Question Number : 232 Question Id : 7230532689 Question Type : MCQ Option Shuffling : Yes Display Question Number : Yes
Single Line Question Option : No Option Orientation : Vertical
Correct : 1 Wrong : 0.25

'मोहनजोदाड़ो' शब्द का क्या अर्थ है?

- Options :
- ✔ मृतकों का स्थान

- ✖ पवित्र मंदिर
- ✖ महान संस्कृति
- ✖ नदियों का संगम

Question Number : 233 Question Id : 7230532690 Question Type : MCQ Option Shuffling : Yes Display Question Number : Yes
Single Line Question Option : No Option Orientation : Vertical
Correct : 1 Wrong : 0.25

The tradition of putting red-coloured vermilion by women in the center of parted hair is a contribution of which of these traditions?

- Options :
- ✖ Mohenjo-Daro Tradition

✓ Harappa Tradition

✗ Indus Valley Tradition

✗ Mesopotamian Tradition

Question Number : 233 Question Id : 7230532690 Question Type : MCQ Option Shuffling : Yes Display Question Number : Yes
Single Line Question Option : No Option Orientation : Vertical

Correct : 1 Wrong : 0.25

विभाजित बालों के बीच महिलाओं द्वारा लाल रंग का सिंदूर लगाने की परंपरा इन परंपराओं में से किसका योगदान है?

Options :

✗ मोहनजोदाड़ो परंपरा

✓ हड़प्पा परंपरा

✗ सिंधु घाटी परंपरा

✗ मीज़ोपोटामिया परंपरा

Question Number : 234 Question Id : 7230532691 Question Type : MCQ Option Shuffling : Yes Display Question Number : Yes
Single Line Question Option : No Option Orientation : Vertical

Correct : 1 Wrong : 0.25

The site of the Harappan Civilisation currently falls in which country?

Options :

✗ India

✓ Pakistan

✗ Bangladesh

✗ Sri Lanka

Question Number : 234 Question Id : 7230532691 Question Type : MCQ Option Shuffling : Yes Display Question Number : Yes
Single Line Question Option : No Option Orientation : Vertical

Correct : 1 Wrong : 0.25

वर्तमान में हड़प्पा सभ्यता का क्षेत्र किस देश में स्थित है?

Options :

✗ भारत में

✓ पाकिस्तान में

✗ बांग्लादेश में

✗ श्रीलंका में

Question Number : 235 Question Id : 7230532692 Question Type : MCQ Option Shuffling : Yes Display Question Number : Yes
Single Line Question Option : No Option Orientation : Vertical

Correct : 1 Wrong : 0.25

In which of the following art forms is the paintings of Indus Valley Civilisation mostly found?

Options :

✗ Sculptures

✓ Pottery

✗ Walls

✗ Seals

Question Number : 235 Question Id : 7230532692 Question Type : MCQ Option Shuffling : Yes Display Question Number : Yes
Single Line Question Option : No Option Orientation : Vertical

Correct : 1 Wrong : 0.25

निम्नलिखित में से अधिकांशतः किस कला स्वरूप में सिंधु घाटी सभ्यता के चित्र पाए जाते हैं?

Options :

✗ मूर्तियों के

✓ मिट्टी के बर्तनों के

✗ दीवारों के

✗ मोहरों के

Question Number : 236 Question Id : 7230532693 Question Type : MCQ Option Shuffling : Yes Display Question Number : Yes
Single Line Question Option : No Option Orientation : Vertical

Correct : 1 Wrong : 0.25

The 'Dancing girl' statue, found at the excavations of Indus Valley Civilisation, was made of which of these materials?

Options :

✓ Bronze

- ✖ Copper
- ✖ Terracotta
- ✖ Steatite

Question Number : 236 Question Id : 7230532693 Question Type : MCQ Option Shuffling : Yes Display Question Number : Yes
Single Line Question Option : No Option Orientation : Vertical
Correct : 1 Wrong : 0.25

सिंधु घाटी सभ्यता की खुदाई करते समय पाई गई 'नृत्य करती लड़की' की मूर्ति, इनमें से किस सामग्री से बनी थी?

Options :

✔ कांसे से

✖ तांबे से

✖ टेराकोटा से

✖ सेलखड़ी से

Question Number : 237 Question Id : 7230532694 Question Type : MCQ Option Shuffling : Yes Display Question Number : Yes
Single Line Question Option : No Option Orientation : Vertical
Correct : 1 Wrong : 0.25

Features of Jain miniatures, like protruding eyes over cheeks and angularity seems to have been borrowed from which of the following murals?

Options :

✖ Bagh Murals

✖ Ajantha Murals

✔ Ellora Murals

✖ Lepakshi Murals

Question Number : 237 Question Id : 7230532694 Question Type : MCQ Option Shuffling : Yes Display Question Number : Yes
Single Line Question Option : No Option Orientation : Vertical
Correct : 1 Wrong : 0.25

जैन लघुचित्रों की विशेषताएँ, जैसे गालों पर आँखों का उभरा होना और कोणीयता निम्नलिखित में से किस भित्ति चित्र से अपनाई गई हैं?

Options :

✖ बाग भित्ति चित्र से

- ✖ अजंता भित्ति चित्र से
- ✔ एलोरा भित्ति चित्र से
- ✖ लेपाक्षी भित्ति चित्र से

Question Number : 238 Question Id : 7230532695 Question Type : MCQ Option Shuffling : Yes Display Question Number : Yes
Single Line Question Option : No Option Orientation : Vertical

Correct : 1 Wrong : 0.25

The 'Mrigavat' series of manuscript illustrations were commissioned to which of these schools?

Options :

- ✔ Sultanate School
- ✖ Mughal School
- ✖ Rajput School
- ✖ Provincial Mughal School

Question Number : 238 Question Id : 7230532695 Question Type : MCQ Option Shuffling : Yes Display Question Number : Yes
Single Line Question Option : No Option Orientation : Vertical

Correct : 1 Wrong : 0.25

पांडुलिपि चित्रों की 'मृगावत' शृंखला को इनमें से किस शैली द्वारा प्रमाणित किया गया था?

Options :

- ✔ सल्तनत शैली
- ✖ मुगल शैली
- ✖ राजपूत शैली
- ✖ प्रांतीय मुगल शैली

Question Number : 239 Question Id : 7230532696 Question Type : MCQ Option Shuffling : Yes Display Question Number : Yes
Single Line Question Option : No Option Orientation : Vertical

Correct : 1 Wrong : 0.25

The miniature 'Boat of Love' belongs to which of these schools?

Options :

- ✖ Kotah

- ✖ Bundi
- ✔ Kishangarh
- ✖ Mandi

Question Number : 239 Question Id : 7230532696 Question Type : MCQ Option Shuffling : Yes Display Question Number : Yes
Single Line Question Option : No Option Orientation : Vertical

Correct : 1 Wrong : 0.25

लघु चित्र 'प्रेम की नाव' ('बोट ऑफ़ लव') इनमें से किस शैली से संबंधित है?

Options :

- ✖ कोटा से
- ✖ बूंदी से
- ✔ किशनगढ़ से
- ✖ मंडी से

Question Number : 240 Question Id : 7230532697 Question Type : MCQ Option Shuffling : Yes Display Question Number : Yes
Single Line Question Option : No Option Orientation : Vertical

Correct : 1 Wrong : 0.25

Who among the following painters was honored as 'Sharin Qalam' by Humayun?

Options :

- ✖ Bihazad
- ✖ Mir Sayyid Ali
- ✖ Mir Musavir
- ✔ Quaza Abdus Samad

Question Number : 240 Question Id : 7230532697 Question Type : MCQ Option Shuffling : Yes Display Question Number : Yes
Single Line Question Option : No Option Orientation : Vertical

Correct : 1 Wrong : 0.25

हुमायूँ द्वारा निम्नलिखित चित्रकारों में से किस को 'शरी कलाम' के रूप में सम्मानित किया गया था?

Options :

- ✖ बिहज़ाद को

❌ मीर सईद अली को

❌ मीर मुसाविर को

✅ ख्वाजा अब्दुस समद को

Subject Related

Group Number :	13
Group Id :	723053133
Group Maximum Duration :	0
Group Minimum Duration :	0
Revisit allowed for view? :	No
Revisit allowed for edit? :	No
Break time:	0
Group Marks:	20

Subject Related

Section Id :	723053133
Section Number :	1
Section type :	Online
Mandatory or Optional:	Mandatory
Number of Questions:	20
Number of Questions to be attempted:	20
Section Marks:	20
Display Number Panel:	Yes
Group All Questions:	No

Sub-Section Number:	1
Sub-Section Id:	723053184
Question Shuffling Allowed :	Yes

Question Number : 241 Question Id : 7230532698 Question Type : MCQ Option Shuffling : Yes Display Question Number : Yes
Single Line Question Option : No Option Orientation : Vertical
Correct : 1 Wrong : 0.25

Which one of the following options is in correct chronological order of Deccani schools of art?

Options :

✅ Ahmednagar, Bijapur, Golconda

❌ Bidar, Berar, Golconda

❌ Berar, Bijapur, Ahmednagar

✖ Ahmednagar, Bidar, Golconda

Question Number : 241 Question Id : 7230532698 Question Type : MCQ Option Shuffling : Yes Display Question Number : Yes
Single Line Question Option : No Option Orientation : Vertical

Correct : 1 Wrong : 0.25

निम्नलिखित में से कौन सा विकल्प कला की दक्खिनी शैली के सही कालानुक्रमिक क्रम में है?

Options :

✔ अहमदनगर, बीजापुर, गोलकोंडा

✖ बीदर, बेरार, गोलकोंडा

✖ बेरार, बीजापुर, अहमदनगर

✖ अहमदनगर, बीदर, गोलकोंडा

Question Number : 242 Question Id : 7230532699 Question Type : MCQ Option Shuffling : Yes Display Question Number : Yes
Single Line Question Option : No Option Orientation : Vertical

Correct : 1 Wrong : 0.25

The Period of which of these rulers is known as the Golden Period of Indian painting?

Options :

✖ Akbar

✔ Jahangir

✖ Shahjahan

✖ Bahadur Shah

Question Number : 242 Question Id : 7230532699 Question Type : MCQ Option Shuffling : Yes Display Question Number : Yes
Single Line Question Option : No Option Orientation : Vertical

Correct : 1 Wrong : 0.25

इन शासकों में से किसके काल को भारतीय चित्रकला के स्वर्ण काल के रूप में जाना जाता है?

Options :

✖ अकबर के

✔ जहाँगीर के

✖ शाहजहाँ के

❌ बहादुर शाह के

Question Number : 243 Question Id : 7230532700 Question Type : MCQ Option Shuffling : Yes Display Question Number : Yes
Single Line Question Option : No Option Orientation : Vertical

Correct : 1 Wrong : 0.25

The technique of painting on mica, glass, ivory was a contribution of which of these schools of art?

Options :

❌ Bengal School

✓ Patna School

❌ J.J. School

❌ Baroda School

Question Number : 243 Question Id : 7230532700 Question Type : MCQ Option Shuffling : Yes Display Question Number : Yes
Single Line Question Option : No Option Orientation : Vertical

Correct : 1 Wrong : 0.25

अभ्रक, कांच, हाथी-दांत पर चित्रकला की तकनीक इन शैलियों में से किस का योगदान थी?

Options :

❌ बंगाल शैली

✓ पटना शैली

❌ जे. जे. शैली

❌ बड़ोदा शैली

Question Number : 244 Question Id : 7230532701 Question Type : MCQ Option Shuffling : Yes Display Question Number : Yes
Single Line Question Option : No Option Orientation : Vertical

Correct : 1 Wrong : 0.25

Who painted the 'Turkey Cock'?

Options :

❌ Bishan Das

✓ Mansur

❌ Abul Hasan

❌ Manohar

Question Number : 244 Question Id : 7230532701 Question Type : MCQ Option Shuffling : Yes Display Question Number : Yes
Single Line Question Option : No Option Orientation : Vertical

Correct : 1 Wrong : 0.25

‘तुर्की मुर्गा’ (‘टर्की कॉक’) को किसने चित्रित किया था?

Options :

✗ बिशन दास ने

✓ मंसूर ने

✗ अबुल हसन ने

✗ मनोहर ने

Question Number : 245 Question Id : 7230532702 Question Type : MCQ Option Shuffling : Yes Display Question Number : Yes
Single Line Question Option : No Option Orientation : Vertical

Correct : 1 Wrong : 0.25

Identify the artist whose work was a synthesis of the Patuas’ folk style and Byzantine Christ.

Options :

✓ Jamini Roy

✗ Asit Kumar Haldar

✗ A. R. Chughtai

✗ Raja Ravi Varma

Question Number : 245 Question Id : 7230532702 Question Type : MCQ Option Shuffling : Yes Display Question Number : Yes
Single Line Question Option : No Option Orientation : Vertical

Correct : 1 Wrong : 0.25

उस चित्रकार की पहचान करें जिसका कार्य ‘पटुआ’ की लोक शैली और बाइज़ेन्टाइन मसीह का संकलन था

Options :

✓ जेमिनी रॉय

✗ असित कुमार हल्दर

✗ ए. आर. चुगताई

✖ राजा रवि वर्मा

Question Number : 246 Question Id : 7230532703 Question Type : MCQ Option Shuffling : Yes Display Question Number : Yes
Single Line Question Option : No Option Orientation : Vertical

Correct : 1 Wrong : 0.25

In which of these places was the first Ragamala series painted?

Options :

✔ Mewar

✖ Bundi

✖ Kotah

✖ Kishangarh

Question Number : 246 Question Id : 7230532703 Question Type : MCQ Option Shuffling : Yes Display Question Number : Yes
Single Line Question Option : No Option Orientation : Vertical

Correct : 1 Wrong : 0.25

इनमें से किस स्थान पर प्रथम रागमाला श्रृंखला चित्रित की गई थी?

Options :

✔ मेवाड़

✖ बूंदी

✖ कोटा

✖ किशनगढ़

Question Number : 247 Question Id : 7230532704 Question Type : MCQ Option Shuffling : Yes Display Question Number : Yes
Single Line Question Option : No Option Orientation : Vertical

Correct : 1 Wrong : 0.25

In which of these schools of paintings is the familiar Gandalao Lake often depicted?

Options :

✖ Basholi

✔ Kishangarh

✖ Malwa

✖ Kotah

Question Number : 247 Question Id : 7230532704 Question Type : MCQ Option Shuffling : Yes Display Question Number : Yes
Single Line Question Option : No Option Orientation : Vertical

Correct : 1 Wrong : 0.25

चित्रकला की इन शैलियों में से किसमें परिचित गंदलाओ झील को प्रायः चित्रित किया गया है?

Options :

✖ बशोली

✔ किशनगढ़

✖ मालवा

✖ कोटा

Question Number : 248 Question Id : 7230532705 Question Type : MCQ Option Shuffling : Yes Display Question Number : Yes
Single Line Question Option : No Option Orientation : Vertical

Correct : 1 Wrong : 0.25

Who was the patron of the Kangra School of Miniature painting?

Options :

✖ Raja Sawant Singh

✔ Raja Sansar Chand

✖ Raja Kirpal Pal

✖ Raja Aniruddha Chand

Question Number : 248 Question Id : 7230532705 Question Type : MCQ Option Shuffling : Yes Display Question Number : Yes
Single Line Question Option : No Option Orientation : Vertical

Correct : 1 Wrong : 0.25

लघुचित्र चित्रकला की कांगड़ा शैली (कांगड़ा स्कूल ऑफ मिनिचर पेंटिंग) का संरक्षक कौन था?

Options :

✖ राजा सावंत सिंह

✔ राजा संसार चंद

✖ राजा किरपाल पाल

✖ राजा अनिरुद्ध चंद

Question Number : 249 Question Id : 7230532706 Question Type : MCQ Option Shuffling : Yes Display Question Number : Yes
Single Line Question Option : No Option Orientation : Vertical
Correct : 1 Wrong : 0.25

The miniature 'The Seize of Ranathambur' is a folio from which of the following?

Options :

- ☐ Humayun nama
- ☒ Akbar nama
- ☐ Jahangir nama
- ☐ Padsha nama

Question Number : 249 Question Id : 7230532706 Question Type : MCQ Option Shuffling : Yes Display Question Number : Yes
Single Line Question Option : No Option Orientation : Vertical
Correct : 1 Wrong : 0.25

लघुचित्र 'रणथंभौर की घेराबंदी' निम्नलिखित में से किसकी एक पुस्तक (folio) है?

Options :

- ☐ हुमायूँ नामा
- ☒ अकबर नामा
- ☐ जहाँगीर नामा
- ☐ पादशाह नामा

Question Number : 250 Question Id : 7230532707 Question Type : MCQ Option Shuffling : Yes Display Question Number : Yes
Single Line Question Option : No Option Orientation : Vertical
Correct : 1 Wrong : 0.25

Which of the following statements is NOT true of Chola bronzes?

Options :

- ☐ They use high percentage of copper
- ☐ They were made of lost wax process
- ☐ They were ceremonial idols
- ☒ They were life-size

Question Number : 250 Question Id : 7230532707 Question Type : MCQ Option Shuffling : Yes Display Question Number : Yes
Single Line Question Option : No Option Orientation : Vertical

Correct : 1 Wrong : 0.25

निम्नलिखित में से कौन सा कथन चोल कांस्य के संबंध में सत्य नहीं है?

Options :

- ✖ वे तांबे के उच्च प्रतिशत का प्रयोग करते हैं
- ✖ वे मोम गलन प्रक्रिया (लॉस्ट वैक्स प्रॉसेस) से बने थे
- ✖ वे आनुष्ठानिक (सेरिमोनियल) मूर्तियाँ थीं
- ✔ वे आदमकद आकार की थीं

Question Number : 251 Question Id : 7230532708 Question Type : MCQ Option Shuffling : Yes Display Question Number : Yes
Single Line Question Option : No Option Orientation : Vertical

Correct : 1 Wrong : 0.25

When did the supreme court declare that the flying of national flag is a fundamental right?

Options :

- ✔ 23rd January 2004
- ✖ 26th January 2005
- ✖ 23rd January 2006
- ✖ 23rd January 1948

Question Number : 251 Question Id : 7230532708 Question Type : MCQ Option Shuffling : Yes Display Question Number : Yes
Single Line Question Option : No Option Orientation : Vertical

Correct : 1 Wrong : 0.25

सर्वोच्च न्यायालय ने कब घोषणा की, कि राष्ट्रीय ध्वज फहराना एक मौलिक अधिकार है?

Options :

- ✔ 23 जनवरी 2004 को
- ✖ 26 जनवरी 2005 को
- ✖ 23 जनवरी 2006 को
- ✖ 23 जनवरी 1948 को

Question Number : 252 Question Id : 7230532709 Question Type : MCQ Option Shuffling : Yes Display Question Number : Yes
Single Line Question Option : No Option Orientation : Vertical

Correct : 1 Wrong : 0.25

Which of the following arts of miniature painting found patronage from Himachal Pradesh and Garhwal hills?

Options :

- ☐ Jain Painting
- ☐ Rajasthan Painting
- ☒ Pahari Painting
- ☐ Rajput Painting

Question Number : 252 Question Id : 7230532709 Question Type : MCQ Option Shuffling : Yes Display Question Number : Yes
Single Line Question Option : No Option Orientation : Vertical

Correct : 1 Wrong : 0.25

लघु चित्रकला की निम्नलिखित कलाओं में से कौन सी कला हिमाचल प्रदेश और गढ़वाल की पहाड़ियों में संरक्षित थी?

Options :

- ☐ जैन चित्रकला
- ☐ राजस्थान चित्रकला
- ☒ पहाड़ी चित्रकला
- ☐ राजपूत चित्रकला

Question Number : 253 Question Id : 7230532710 Question Type : MCQ Option Shuffling : Yes Display Question Number : Yes
Single Line Question Option : No Option Orientation : Vertical

Correct : 1 Wrong : 0.25

Which of the following statements is true of the Gupta school?

Options :

- ☐ Gupta artists gave importance to narrative scenes
- ☐ Sarnath seated Buddha is preserved in Victoria museum, Kolkata
- ☒ Halo the is most remarkable feature in Gupta School of paintings
- ☐ Sarnath seated Buddha is made of Copper

Question Number : 253 Question Id : 7230532710 Question Type : MCQ Option Shuffling : Yes Display Question Number : Yes
Single Line Question Option : No Option Orientation : Vertical

Correct : 1 Wrong : 0.25

गुप्त शैली के निम्नलिखित कथनों में से कौन सा कथन सत्य है?

Options :

- ☒ गुप्त चित्रकार वर्णनात्मक दृश्यों को महत्व देते थे
- ☒ सारनाथ की बैठे हुए बुद्ध की मूर्ति को विक्टोरिया संग्रहालय, कोलकाता में संरक्षित रखा गया है
- ☒ गुप्त चित्रकला शैली में आभा मंडल सर्वाधिक उल्लेखनीय विशेषता है
- ☒ सारनाथ की बैठे हुए बुद्ध की मूर्ति तांबे द्वारा निर्मित है

Question Number : 254 Question Id : 7230532711 Question Type : MCQ Option Shuffling : Yes Display Question Number : Yes
Single Line Question Option : No Option Orientation : Vertical

Correct : 1 Wrong : 0.25

Sculpture 'Didarganj Yakshini' can be ascribed to which of these schools?

Options :

- ☒ Maurya School
- ☒ Sunga School
- ☒ Amaravathi Schol
- ☒ Madhura School

Question Number : 254 Question Id : 7230532711 Question Type : MCQ Option Shuffling : Yes Display Question Number : Yes
Single Line Question Option : No Option Orientation : Vertical

Correct : 1 Wrong : 0.25

मूर्ति 'दीदारगंज यक्षिणी' इन शैलियों में से किस से संबंधित हो सकती है?

Options :

- ☒ मौर्य शैली
- ☒ शुंग शैली
- ☒ अमरावती शैली
- ☒ मधुर शैली

Question Number : 255 Question Id : 7230532712 Question Type : MCQ Option Shuffling : Yes Display Question Number : Yes
Single Line Question Option : No Option Orientation : Vertical
Correct : 1 Wrong : 0.25

To which school did painter Devidasa belong?

Options :

☐ Chamba

☐ Kangra

☐ Guler

☒ Basholi

Question Number : 255 Question Id : 7230532712 Question Type : MCQ Option Shuffling : Yes Display Question Number : Yes
Single Line Question Option : No Option Orientation : Vertical
Correct : 1 Wrong : 0.25

चित्रकार देवीदास किस शैली से संबंधित थे?

Options :

☐ चंबा

☐ कांगड़ा

☐ गुलेर

☒ बशोली

Question Number : 256 Question Id : 7230532713 Question Type : MCQ Option Shuffling : Yes Display Question Number : Yes
Single Line Question Option : No Option Orientation : Vertical
Correct : 1 Wrong : 0.25

Who is the artist of the painting 'Damayanti'?

Options :

☐ Raja Raja Varma

☒ Raja Ravi Varma

☐ Pandit Seu

☐ Chitra Tirunal

Question Number : 256 Question Id : 7230532713 Question Type : MCQ Option Shuffling : Yes Display Question Number : Yes
Single Line Question Option : No Option Orientation : Vertical
Correct : 1 Wrong : 0.25

‘दमयंती’ चित्रकला का चित्रकार कौन है?

Options :

- ✖ राजा राजा वर्मा
- ✔ राजा रवि वर्मा
- ✖ पंडित शिव
- ✖ चित्रा तिरुनल

Question Number : 257 Question Id : 7230532714 Question Type : MCQ Option Shuffling : Yes Display Question Number : Yes
Single Line Question Option : No Option Orientation : Vertical

Correct : 1 Wrong : 0.25

Which of the following styles did Raja Ravi Varma choose to meet the demands of the paintings of gods and goddesses?

Options :

- ✖ Digital Printing
- ✔ Oleographs
- ✖ Wood Cuts
- ✖ Etching Prints

Question Number : 257 Question Id : 7230532714 Question Type : MCQ Option Shuffling : Yes Display Question Number : Yes
Single Line Question Option : No Option Orientation : Vertical

Correct : 1 Wrong : 0.25

राजा रवि वर्मा ने देवताओं और देवियों के चित्रों की आवश्यकताएँ पूर्ण करने के लिए निम्नलिखित शैलियों में से किस शैली का चयन किया?

Options :

- ✖ अंकीय मुद्रण (डिजिटल प्रिंटिंग) का
- ✔ रंगीन शिलामुद्र (ओलिओग्राफ़) का
- ✖ काष्ठ खंडों का
- ✖ नक्काशीदार मुद्रण का

Question Number : 258 Question Id : 7230532715 Question Type : MCQ Option Shuffling : Yes Display Question Number : Yes
Single Line Question Option : No Option Orientation : Vertical

Correct : 1 Wrong : 0.25

The work 'Ceremony of unmasking' was done by which of these artists?

Options :

- ☐ Lakshma Goud
- ☒ Anupam Sud
- ☐ Shanti Dave
- ☐ Vivan Sundaram

Question Number : 258 Question Id : 7230532715 Question Type : MCQ Option Shuffling : Yes Display Question Number : Yes
Single Line Question Option : No Option Orientation : Vertical

Correct : 1 Wrong : 0.25

'सेरिमनी ऑफ अनमास्किंग' कार्य इन चित्रकारों में से किसके द्वारा किया गया था?

Options :

- ☐ लक्ष्मा गौड़
- ☒ अनुपम सूद
- ☐ शांति दवे
- ☐ विवान सुंदरम्

Question Number : 259 Question Id : 7230532716 Question Type : MCQ Option Shuffling : Yes Display Question Number : Yes
Single Line Question Option : No Option Orientation : Vertical

Correct : 1 Wrong : 0.25

Who did the painting titled 'Between memory and Music'?

Options :

- ☒ Gulam Mohemmad Sheik
- ☐ Nilima Sheik
- ☐ V. Ramesh
- ☐ K. G. Subramanyan

Question Number : 259 Question Id : 7230532716 Question Type : MCQ Option Shuffling : Yes Display Question Number : Yes
Single Line Question Option : No Option Orientation : Vertical

Correct : 1 Wrong : 0.25

‘स्मृति और संगीत के बीच’ (‘बिट्वीन मेमरी ऐंड म्यूज़िक’) शीर्षक वाली चित्रकला किसने निर्मित की थी?

Options :

- ✓ गुलाम मोहम्मद शेख ने
- ✗ नीलिमा शेख ने
- ✗ वी. रमेश ने
- ✗ के. जी. सुब्रमण्यन ने

Question Number : 260 Question Id : 7230532717 Question Type : MCQ Option Shuffling : Yes Display Question Number : Yes
Single Line Question Option : No Option Orientation : Vertical

Correct : 1 Wrong : 0.25

The painting “Monkeys and Kanchan tree” was done by -Identify from the given options .

Options :

- ✗ B. C. Sanyal
- ✗ N. N. Rimzon
- ✗ Ramkumar
- ✓ A. Ramachandran

Question Number : 260 Question Id : 7230532717 Question Type : MCQ Option Shuffling : Yes Display Question Number : Yes
Single Line Question Option : No Option Orientation : Vertical

Correct : 1 Wrong : 0.25

दिये गए विकल्पों में से पहचान करें।

“बंदर और कंचन पेड़” चित्रकला का निर्माण किसने किया था?

Options :

- ✗ बी. सी. सान्याल
- ✗ एन. एन. रिमज़न
- ✗ रामकुमार
- ✓ ए. रामचंद्रन

Subject Related

Group Number :	14
Group Id :	723053134
Group Maximum Duration :	0
Group Minimum Duration :	0
Revisit allowed for view? :	No
Revisit allowed for edit? :	No
Break time:	0
Group Marks:	20

Subject Related

Section Id :	723053134
Section Number :	1
Section type :	Online
Mandatory or Optional:	Mandatory
Number of Questions:	20
Number of Questions to be attempted:	20
Section Marks:	20
Display Number Panel:	Yes
Group All Questions:	No

Sub-Section Number:	1
Sub-Section Id:	723053185
Question Shuffling Allowed :	Yes

Question Number : 261 Question Id : 7230532718 Question Type : MCQ Option Shuffling : Yes Display Question Number : Yes
Single Line Question Option : No Option Orientation : Vertical
Correct : 1 Wrong : 0.25

When was the national flag for Independent India adopted?

Options :

✖ 15th August 1947

✔ 22nd July 1947

✖ 15th July 1946

✖ 23rd July 1947

Question Number : 261 Question Id : 7230532718 Question Type : MCQ Option Shuffling : Yes Display Question Number : Yes
Single Line Question Option : No Option Orientation : Vertical
Correct : 1 Wrong : 0.25

स्वतंत्र भारत के लिए राष्ट्रीय ध्वज कब अपनाया गया था?

Options :

- ✖ 15 अगस्त 1947 को
- ✔ 22 जुलाई 1947 को
- ✖ 15 जुलाई 1946 को
- ✖ 23 जुलाई 1947 को

Question Number : 262 Question Id : 7230532719 Question Type : MCQ Option Shuffling : Yes Display Question Number : Yes
Single Line Question Option : No Option Orientation : Vertical

Correct : 1 Wrong : 0.25

Identify the standard size of a table flag as per the Bureau of Indian Standards from the following?

Options :

- ✔ 150 mm × 100 mm
- ✖ 100 mm × 150 mm
- ✖ 150 mm × 200 mm
- ✖ 300 mm × 200 mm

Question Number : 262 Question Id : 7230532719 Question Type : MCQ Option Shuffling : Yes Display Question Number : Yes
Single Line Question Option : No Option Orientation : Vertical

Correct : 1 Wrong : 0.25

भारतीय मानक ब्यूरो के अनुसार निम्नलिखित में से मेज़ पर रखे जाने वाले ध्वज के मानक आकार की पहचान करें?

Options :

- ✔ 150 mm × 100 mm
- ✖ 100 mm × 150 mm
- ✖ 150 mm × 200 mm
- ✖ 300 mm × 200 mm

Question Number : 263 Question Id : 7230532720 Question Type : MCQ Option Shuffling : Yes Display Question Number : Yes
Single Line Question Option : No Option Orientation : Vertical

Correct : 1 Wrong : 0.25

Who was the first principal of the Calcutta School of Art?

Options :

✖ Abanindranath Tagore

✔ E. B. Havell

✖ Baden Powell

✖ Nandalal Bose

Question Number : 263 Question Id : 7230532720 Question Type : MCQ Option Shuffling : Yes Display Question Number : Yes
Single Line Question Option : No Option Orientation : Vertical

Correct : 1 Wrong : 0.25

कलकत्ता स्कूल ऑफ आर्ट के प्रथम प्रधानाचार्य कौन थे?

Options :

✖ अबनींद्रनाथ टैगोर

✔ ई. बी. हैवेल

✖ बेडेन पॉवेल

✖ नंदलाल बोस

Question Number : 264 Question Id : 7230532721 Question Type : MCQ Option Shuffling : Yes Display Question Number : Yes
Single Line Question Option : No Option Orientation : Vertical

Correct : 1 Wrong : 0.25

Identify the famous print maker and painter who infused eroticism in his paintings of rural life.

Options :

✖ Anupam Sud

✖ Naina Dalal

✔ K. Laxma Goud

✖ RM Palaniappan

Question Number : 264 Question Id : 7230532721 Question Type : MCQ Option Shuffling : Yes Display Question Number : Yes
Single Line Question Option : No Option Orientation : Vertical

Correct : 1 Wrong : 0.25

उस प्रसिद्ध मुद्रण निर्माता और चित्रकार की पहचान करें जिसने ग्रामीण जीवन के अपने चित्रों में कामुकता का सम्मिश्रण किया था।

Options :

- ✖ अनुपम सूद
- ✖ नैना दलाल
- ✔ के. लक्ष्मा गौड़
- ✖ आर. एम. पलानीअप्पन

Question Number : 265 Question Id : 7230532722 Question Type : MCQ Option Shuffling : Yes Display Question Number : Yes
Single Line Question Option : No Option Orientation : Vertical
Correct : 1 Wrong : 0.25

The famous illustration work 'The Arabian Nights' is associated with which of the following artists?

Options :

- ✖ Amir Khusroo
- ✔ Abanindranath Tagore
- ✖ J. P. Ganguly
- ✖ A. R. Chughtai

Question Number : 265 Question Id : 7230532722 Question Type : MCQ Option Shuffling : Yes Display Question Number : Yes
Single Line Question Option : No Option Orientation : Vertical
Correct : 1 Wrong : 0.25

प्रसिद्ध चित्रण कार्य 'द अरेबियन नाइट्स' निम्नलिखित में से किस चित्रकार से संबंधित है?

Options :

- ✖ अमीर खुसरो
- ✔ अबनींद्र नाथ टैगोर
- ✖ जे. पी. गांगुली
- ✖ ए. आर. चुगताई

Question Number : 266 Question Id : 7230532723 Question Type : MCQ Option Shuffling : Yes Display Question Number : Yes
Single Line Question Option : No Option Orientation : Vertical
Correct : 1 Wrong : 0.25

Which of the following Indian sculptors is famous for his grand scale Women Heads which fuse pop and traditions of India, using fiber glass medium?

Options :

- ☒ Ravinder Reddy G
- ☐ K Kunhiraman
- ☐ Navjot Altaf
- ☐ Raghav Kaneria

Question Number : 266 Question Id : 7230532723 Question Type : MCQ Option Shuffling : Yes Display Question Number : Yes
Single Line Question Option : No Option Orientation : Vertical

Correct : 1 Wrong : 0.25

निम्नलिखित में से कौन सा भारतीय मूर्तिकार अपने व्यापक पैमाने वाले महिला सिरों के लिए प्रसिद्ध है, जो फाइबर ग्लास माध्यम का प्रयोग करते हुए पाँप और भारत की परंपराओं को एकाकार करते हैं?

Options :

- ☒ रविंदर रेड्डी जी
- ☐ के. कुन्हीरमण
- ☐ नवजोत अल्टाफ़
- ☐ राघव कनेरिया

Question Number : 267 Question Id : 7230532724 Question Type : MCQ Option Shuffling : Yes Display Question Number : Yes
Single Line Question Option : No Option Orientation : Vertical

Correct : 1 Wrong : 0.25

The colossal sculptures Yaksha and Yakshini installed in front of the Rashtrapathi Bhavan were executed by:

Options :

- ☐ Dhanraj Bhagat
- ☐ D. P. Roy Chowdhury
- ☒ Ramkinkar Baij
- ☐ Mrinalini Mukherjee

Question Number : 267 Question Id : 7230532724 Question Type : MCQ Option Shuffling : Yes Display Question Number : Yes
Single Line Question Option : No Option Orientation : Vertical

Correct : 1 Wrong : 0.25

राष्ट्रपति भवन के सामने स्थापित यक्ष और यक्षिणी की विशाल मूर्तियाँ किसके द्वारा निष्पादित की गई थीं?

Options :

- ✖ धनराज भगत द्वारा
- ✖ डी. पी. राँय चौधरी द्वारा
- ✔ रामकिंकर बैज द्वारा
- ✖ मृणालिनी मुखर्जी द्वारा

Question Number : 268 Question Id : 7230532725 Question Type : MCQ Option Shuffling : Yes Display Question Number : Yes
Single Line Question Option : No Option Orientation : Vertical
Correct : 1 Wrong : 0.25

Who was the visionary behind the Roopankar Museum of Fine Arts at Bharath Bhavan, Bhopal?

Options :

- ✔ J.Swaminathan
- ✖ Jyothi Bhatt
- ✖ K. C. Panikkar
- ✖ M. F. Hussain

Question Number : 268 Question Id : 7230532725 Question Type : MCQ Option Shuffling : Yes Display Question Number : Yes
Single Line Question Option : No Option Orientation : Vertical
Correct : 1 Wrong : 0.25

भारत भवन, भोपाल में ललित कलाओं के रूपंकर संग्रहालय के पीछे कौन दूरदर्शी था?

Options :

- ✔ जे. स्वामीनाथन
- ✖ ज्योति भट्ट
- ✖ के. सी. पणिककर
- ✖ एम. एफ. हुसैन

Question Number : 269 Question Id : 7230532726 Question Type : MCQ Option Shuffling : Yes Display Question Number : Yes
Single Line Question Option : No Option Orientation : Vertical
Correct : 1 Wrong : 0.25

Whose contribution was the addition of Kalyana Mandapa?

Options :

- ☐ Pallava
- ☐ Chola
- ☐ Hoyasala
- ☒ Vijayanagara

Question Number : 269 Question Id : 7230532726 Question Type : MCQ Option Shuffling : Yes Display Question Number : Yes
Single Line Question Option : No Option Orientation : Vertical
Correct : 1 Wrong : 0.25

कल्याण मंडप का संयोजन किसका योगदान था?

Options :

- ☐ पल्लव का
- ☐ चोल का
- ☐ होयसला का
- ☒ विजयनगर का

Question Number : 270 Question Id : 7230532727 Question Type : MCQ Option Shuffling : Yes Display Question Number : Yes
Single Line Question Option : No Option Orientation : Vertical
Correct : 1 Wrong : 0.25

Where is the Vaikunata Perumal temple located?

Options :

- ☒ Kanchipuram
- ☐ Mallapuram
- ☐ Tanjore
- ☐ Madurai

Question Number : 270 Question Id : 7230532727 Question Type : MCQ Option Shuffling : Yes Display Question Number : Yes
Single Line Question Option : No Option Orientation : Vertical
Correct : 1 Wrong : 0.25

वैकुंठ परुमल मंदिर कहाँ स्थित है?

Options :

✓ कांचीपुरम् में

✗ मलप्पुरम् में

✗ तंजावुर में

✗ मदुरै में

Question Number : 271 Question Id : 7230532728 Question Type : MCQ Option Shuffling : Yes Display Question Number : Yes
Single Line Question Option : No Option Orientation : Vertical

Correct : 1 Wrong : 0.25

Which of the following is considered the most superior architectural structures of the monolithic Pandava Rathas?

Options :

✗ Dharmaraja ratha

✗ Bhima ratha

✓ Arjuna ratha

✗ Draupadi ratha

Question Number : 271 Question Id : 7230532728 Question Type : MCQ Option Shuffling : Yes Display Question Number : Yes
Single Line Question Option : No Option Orientation : Vertical

Correct : 1 Wrong : 0.25

निम्नलिखित में से किसे एकल शिला-खंडीय (मोनोलिथिक) पांडव रथों की सर्वश्रेष्ठ वास्तुकला संरचना माना जाता है?

Options :

✗ धर्मराज रथ

✗ भीम रथ

✓ अर्जुन रथ

✗ द्रौपदी रथ

Question Number : 272 Question Id : 7230532729 Question Type : MCQ Option Shuffling : Yes Display Question Number : Yes
Single Line Question Option : No Option Orientation : Vertical

Correct : 1 Wrong : 0.25

Whose contribution was the rock-cut Kailasanatha Temple?

Options :

✖ Pallavas

✔ Rashtrakutas

✖ Chalukyas

✖ Pandyas

Question Number : 272 Question Id : 7230532729 Question Type : MCQ Option Shuffling : Yes Display Question Number : Yes
Single Line Question Option : No Option Orientation : Vertical

Correct : 1 Wrong : 0.25

पत्थरों को काट कर बनाया कैलाशनाथ मंदिर किसका योगदान था?

Options :

✖ पल्लव का

✔ राष्ट्रकूट का

✖ चालुक्य का

✖ पंड्या का

Question Number : 273 Question Id : 7230532730 Question Type : MCQ Option Shuffling : Yes Display Question Number : Yes
Single Line Question Option : No Option Orientation : Vertical

Correct : 1 Wrong : 0.25

The famous sculpture 'Mahishasuramardini' at Durga Temple is located at which of the following places?

Options :

✔ Aihole

✖ Badami

✖ Pattadakal

✖ Hampi

Question Number : 273 Question Id : 7230532730 Question Type : MCQ Option Shuffling : Yes Display Question Number : Yes
Single Line Question Option : No Option Orientation : Vertical

Correct : 1 Wrong : 0.25

दुर्गा मंदिर में स्थित प्रसिद्ध मूर्तिकला 'महिषासुर-मर्दिनी' निम्नलिखित स्थानों में से कहाँ स्थित है?

Options :

✔ ऐहोल

- ✖ बदामी
- ✖ पत्तदकल
- ✖ हम्पी

Question Number : 274 Question Id : 7230532731 Question Type : MCQ Option Shuffling : Yes Display Question Number : Yes
Single Line Question Option : No Option Orientation : Vertical

Correct : 1 Wrong : 0.25

Which of the following temples is considered the best among the Khajuraho temples?

Options :

- ✖ Chithra Gupta temple
- ✖ Devi Jagadamba temple
- ✔ Kandariya Mahadeva Temple
- ✖ Lakshmana Temple

Question Number : 274 Question Id : 7230532731 Question Type : MCQ Option Shuffling : Yes Display Question Number : Yes
Single Line Question Option : No Option Orientation : Vertical

Correct : 1 Wrong : 0.25

खजुराहो के मंदिरों में से कौन सा मंदिर सर्वोत्तम माना जाता है?

Options :

- ✖ चित्रगुप्त मंदिर
- ✖ देवी जगदंबा मंदिर
- ✔ कंदरिया महादेव मंदिर
- ✖ लक्ष्मण मंदिर

Question Number : 275 Question Id : 7230532732 Question Type : MCQ Option Shuffling : Yes Display Question Number : Yes
Single Line Question Option : No Option Orientation : Vertical

Correct : 1 Wrong : 0.25

The magnificent sculpture 'Maha Varaha' from the Gupta times is located at which of these places?

Options :

- ✔ Udayagiri

✖ Nachna Kuthara

✖ Deogarh

✖ Ujjain

Question Number : 275 Question Id : 7230532732 Question Type : MCQ Option Shuffling : Yes Display Question Number : Yes
Single Line Question Option : No Option Orientation : Vertical

Correct : 1 Wrong : 0.25

गुप्त काल की शोभायमान मूर्तिकला 'महा वराह' इन में से किस स्थान पर स्थित है?

Options :

✔ उदयगिरी

✖ नचना कुठारा

✖ देवगढ़

✖ उज्जैन

Question Number : 276 Question Id : 7230532733 Question Type : MCQ Option Shuffling : Yes Display Question Number : Yes
Single Line Question Option : No Option Orientation : Vertical

Correct : 1 Wrong : 0.25

Where is 'Vimala Vasahi' temple located?

Options :

✖ Chittor

✖ Modhera

✖ Mahakutesvara

✔ Mount Abu

Question Number : 276 Question Id : 7230532733 Question Type : MCQ Option Shuffling : Yes Display Question Number : Yes
Single Line Question Option : No Option Orientation : Vertical

Correct : 1 Wrong : 0.25

'विमला वसाही' मंदिर कहाँ स्थित है?

Options :

✖ चित्तौड़ में

✖ मोढेरा में

✖ महाकुटेश्वर में

✔ माउंट आबू में

Question Number : 277 Question Id : 7230532734 Question Type : MCQ Option Shuffling : Yes Display Question Number : Yes
Single Line Question Option : No Option Orientation : Vertical

Correct : 1 Wrong : 0.25

Rearing horses that decorates pillars is a sculptural element that can be traced back to the times of which of these kings?

Options :

✔ Vijayanagara

✖ Chalukya

✖ Pallava

✖ Chola

Question Number : 277 Question Id : 7230532734 Question Type : MCQ Option Shuffling : Yes Display Question Number : Yes
Single Line Question Option : No Option Orientation : Vertical

Correct : 1 Wrong : 0.25

स्तम्भों पर सजाई गई पालतू घोड़ों की एक मूर्तिकला तत्व को इनमें से किस राजा के समय में देखा जा सकता है?

Options :

✔ विजयनगर

✖ चालुक्य

✖ पल्लव

✖ चोल

Question Number : 278 Question Id : 7230532735 Question Type : MCQ Option Shuffling : Yes Display Question Number : Yes
Single Line Question Option : No Option Orientation : Vertical

Correct : 1 Wrong : 0.25

How many methods were practiced in traditional bronze statues?

Options :

✖ One

✔ Two

✖ Three

✖ Four

Question Number : 278 Question Id : 7230532735 Question Type : MCQ Option Shuffling : Yes Display Question Number : Yes
Single Line Question Option : No Option Orientation : Vertical

Correct : 1 Wrong : 0.25

पारंपरिक कांस्य मूर्तियों में कितनी विधियों का अभ्यास किया गया था?

Options :

✖ एक

✔ दो

✖ तीन

✖ चार

Question Number : 279 Question Id : 7230532736 Question Type : MCQ Option Shuffling : Yes Display Question Number : Yes
Single Line Question Option : No Option Orientation : Vertical

Correct : 1 Wrong : 0.25

Who is the founder of the Baroda Group of Artists?

Options :

✖ Himmath shah

✖ Gulam Mohammed Shah

✔ N. S. Bendre

✖ Vinod Patel

Question Number : 279 Question Id : 7230532736 Question Type : MCQ Option Shuffling : Yes Display Question Number : Yes
Single Line Question Option : No Option Orientation : Vertical

Correct : 1 Wrong : 0.25

चित्रकारों के बड़ोदा समूह के संस्थापक कौन हैं?

Options :

✖ हिम्मत शाह

✖ गुलाम मोहम्मद शाह

✔ एन. एस. बेंद्रे

❌ विनोद पटेल

Question Number : 280 Question Id : 7230532737 Question Type : MCQ Option Shuffling : Yes Display Question Number : Yes
Single Line Question Option : No Option Orientation : Vertical

Correct : 1 Wrong : 0.25

Which contemporary artist has done the painting series 'Remembrances of Voices'?

Options :

❌ Vasan Kollerli

✅ V. Ramesh

❌ Chintan Upadhyay

❌ Nalini Malani

Question Number : 280 Question Id : 7230532737 Question Type : MCQ Option Shuffling : Yes Display Question Number : Yes
Single Line Question Option : No Option Orientation : Vertical

Correct : 1 Wrong : 0.25

किस समकालीन चित्रकार ने चित्रकला श्रृंखला 'आवाज़ों की स्मृति' ('रिमेम्ब्रेंस ऑफ़ वॉइस') का निर्माण किया है?

Options :

❌ वासन कोल्लेरी ने

✅ वी. रमेश ने

❌ चिंतन उपाध्याय ने

❌ नलिनी मालिनी ने

Subject Related

Group Number :	15
Group Id :	723053135
Group Maximum Duration :	0
Group Minimum Duration :	180
Revisit allowed for view? :	No
Revisit allowed for edit? :	No
Break time:	0
Group Marks:	20

Subject Related

Section Id : 723053135

Section Number :	1
Section type :	Online
Mandatory or Optional:	Mandatory
Number of Questions:	20
Number of Questions to be attempted:	20
Section Marks:	20
Display Number Panel:	Yes
Group All Questions:	No

Sub-Section Number:	1
Sub-Section Id:	723053186
Question Shuffling Allowed :	Yes

Question Number : 281 Question Id : 7230532738 Question Type : MCQ Option Shuffling : Yes Display Question Number : Yes
Single Line Question Option : No Option Orientation : Vertical
Correct : 1 Wrong : 0.25

Rewards and punishments are appropriate when we intend to bring about _____.

Options :

- ☐ cognitive development
- ☒ behavioural change
- ☐ internalisation of values
- ☐ inculcation of responsibility

Question Number : 281 Question Id : 7230532738 Question Type : MCQ Option Shuffling : Yes Display Question Number : Yes
Single Line Question Option : No Option Orientation : Vertical
Correct : 1 Wrong : 0.25

जब हम _____ लाने का इरादा रखते हैं तो पुरस्कार और दंड उचित होते हैं।

Options :

- ☐ संज्ञानात्मक विकास
- ☒ व्यवहारात्मक परिवर्तन
- ☐ मूल्यों का आंतरिक-करण
- ☐ ज़िम्मेदारी का एहसास दिलाना

Question Number : 282 Question Id : 7230532739 Question Type : MCQ Option Shuffling : Yes Display Question Number : Yes
Single Line Question Option : No Option Orientation : Vertical
Correct : 1 Wrong : 0.25

When students that are enrolled based on the RTE (Right to Education) provision show signs of behavior-related learning issues it is likely due to their _____.

Options :

- ☒ socio-economic background
- ☐ physical difficulties
- ☐ cognitive disabilities
- ☐ comprehension issues

Question Number : 282 Question Id : 7230532739 Question Type : MCQ Option Shuffling : Yes Display Question Number : Yes
Single Line Question Option : No Option Orientation : Vertical

Correct : 1 Wrong : 0.25

जब आरटीई (शिक्षा का अधिकार) प्रावधान के आधार पर नामांकित छात्र व्यवहार-संबंधी सीखने के मुद्दों के संकेत दिखाते हैं तो संभवतः उनके _____ के कारण होते हैं।

Options :

- ☒ सामाजिक-आर्थिक पृष्ठभूमि
- ☐ भौतिक कठिनाइयाँ
- ☐ संज्ञानात्मक अक्षमताएं
- ☐ समझने में समस्याएं

Question Number : 283 Question Id : 7230532740 Question Type : MCQ Option Shuffling : Yes Display Question Number : Yes
Single Line Question Option : No Option Orientation : Vertical

Correct : 1 Wrong : 0.25

Which of the following is an interesting method to involve kinesthetic learners in language learning?

Options :

- ☐ Watching a role play
- ☐ Reading
- ☒ Puppetry
- ☐ Narrating a story

Question Number : 283 Question Id : 7230532740 Question Type : MCQ Option Shuffling : Yes Display Question Number : Yes
Single Line Question Option : No Option Orientation : Vertical

Correct : 1 Wrong : 0.25

निम्नलिखित में से कौनसी भाषा सीखने में कार्यकलाप के माध्यम से सीखने वाले (केनेस्थेटिक लर्नर) शिक्षार्थियों को शामिल करने का एक दिलचस्प तरीका है?

Options :

- ☐ एक भूमिका निभाते हुए देखना
- ☐ पढ़ना
- ☒ कठपुतली का तमाशा
- ☐ एक कहानी बताते हुए

Question Number : 284 Question Id : 7230532741 Question Type : MCQ Option Shuffling : Yes Display Question Number : Yes
Single Line Question Option : No Option Orientation : Vertical

Correct : 1 Wrong : 0.25

Learning needs are different from learner needs and they are often called:

Options :

- ☒ Pre-requisites for learning
- ☐ Resources for learning
- ☐ Learning techniques
- ☐ Special needs

Question Number : 284 Question Id : 7230532741 Question Type : MCQ Option Shuffling : Yes Display Question Number : Yes
Single Line Question Option : No Option Orientation : Vertical

Correct : 1 Wrong : 0.25

शिक्षण की जरूरत सीखने वाले की जरूरतों से अलग होती है और उन्हें अक्सर कहा जाता है:

Options :

- ☒ सीखने के लिए पूर्व आवश्यकताएँ
- ☐ सीखने के लिए संसाधन
- ☐ सीखने की तकनीकें
- ☐ विशेष जरूरत

Question Number : 285 Question Id : 7230532742 Question Type : MCQ Option Shuffling : Yes Display Question Number : Yes
Single Line Question Option : No Option Orientation : Vertical
Correct : 1 Wrong : 0.25

The basic drive to learn a language arises when:

Options :

- ☐ it is introduced in the syllabus
- ☒ there is a need to converse in that language
- ☐ it is taught properly
- ☐ the text books are impressive

Question Number : 285 Question Id : 7230532742 Question Type : MCQ Option Shuffling : Yes Display Question Number : Yes
Single Line Question Option : No Option Orientation : Vertical
Correct : 1 Wrong : 0.25

भाषा सीखने के लिए मूल ड्राइव तब उत्पन्न होता है जब:

Options :

- ☐ यह पाठ्यक्रम में पेश किया गया है।
- ☒ उस भाषा में बातचीत करने की आवश्यकता है।
- ☐ यह ठीक से पढ़ाया जाता है।
- ☐ टेक्स्ट बुक प्रभावशाली हैं।

Question Number : 286 Question Id : 7230532743 Question Type : MCQ Option Shuffling : Yes Display Question Number : Yes
Single Line Question Option : No Option Orientation : Vertical
Correct : 1 Wrong : 0.25

Use of subjects from the student's daily life routine is one of the fundamentals of curriculum as per the _____.

Options :

- ☐ Principle of flexibility
- ☒ Principle of utility
- ☐ Principle of interests
- ☐ Principle of ability

Question Number : 286 Question Id : 7230532743 Question Type : MCQ Option Shuffling : Yes Display Question Number : Yes
Single Line Question Option : No Option Orientation : Vertical
Correct : 1 Wrong : 0.25

छात्र के दैनिक जीवन दिनचर्या के विषयों का उपयोग _____ के अनुसार पाठ्यचर्या के मूलभूत सिद्धांतों में से एक है।

Options :

- ☐ लचीलापन का सिद्धांत
- ☒ उपयोगिता का सिद्धांत
- ☐ हितों का सिद्धांत
- ☐ क्षमता का सिद्धांत

Question Number : 287 Question Id : 7230532744 Question Type : MCQ Option Shuffling : Yes Display Question Number : Yes
Single Line Question Option : No Option Orientation : Vertical
Correct : 1 Wrong : 0.25

A teacher who is conscious about the gender composition in his class is _____.

Options :

- ☐ being gender biased
- ☐ being alert
- ☒ knowledgeable about of his learners
- ☐ gender stereotyping

Question Number : 287 Question Id : 7230532744 Question Type : MCQ Option Shuffling : Yes Display Question Number : Yes
Single Line Question Option : No Option Orientation : Vertical
Correct : 1 Wrong : 0.25

ऐसे शिक्षक जो अपनी कक्षा में लिंग संरचना के बारे में जागरूक है, वह _____ है।

Options :

- ☐ लिंग पक्षपातपूर्ण होने के नाते
- ☐ सतर्क होना
- ☒ अपने शिक्षार्थियों के बारे में जानकार
- ☐ लिंग रुढ़िबद्धता

Question Number : 288 Question Id : 7230532745 Question Type : MCQ Option Shuffling : Yes Display Question Number : Yes
Single Line Question Option : No Option Orientation : Vertical
Correct : 1 Wrong : 0.25

Secure knowledge of content and pedagogy helps a teacher in:

Options :

- ☒ planning a differentiated lesson plan
- ☐ conducting summative assessments
- ☐ reporting progress
- ☐ evaluating the lesson

Question Number : 288 Question Id : 7230532745 Question Type : MCQ Option Shuffling : Yes Display Question Number : Yes
Single Line Question Option : No Option Orientation : Vertical
Correct : 1 Wrong : 0.25

सामग्री और अध्यापन के सुरक्षित ज्ञान में एक शिक्षक की सहायता करता है:

Options :

- ☒ विभेदित पाठ योजना की योजना बनाना
- ☐ समेकित आकलन आयोजित करना
- ☐ रिपोर्टिंग प्रगति
- ☐ पाठ का मूल्यांकन

Question Number : 289 Question Id : 7230532746 Question Type : MCQ Option Shuffling : Yes Display Question Number : Yes
Single Line Question Option : No Option Orientation : Vertical
Correct : 1 Wrong : 0.25

‘Sociogram’ is a method used to teach social sciences in which the students _____.

Options :

- ☐ make posters for social causes
- ☐ discuss about social issues
- ☐ debate on contemporary issues
- ☒ play roles of various characters in an event or context

Question Number : 289 Question Id : 7230532746 Question Type : MCQ Option Shuffling : Yes Display Question Number : Yes
Single Line Question Option : No Option Orientation : Vertical

Correct : 1 Wrong : 0.25

'समाजशास्त्र' एक ऐसा तरीका है जिसका उपयोग सामाजिक विज्ञान को पढ़ाने के लिए किया जाता है जिसमें छात्र _____।

Options :

- ☐ सामाजिक अभियान के लिए पोस्टर बनाते हैं
- ☐ सामाजिक मुद्दों के बारे में चर्चा करते हैं
- ☐ समकालीन मुद्दों पर बहस करते हैं
- ☒ किसी घटना या संदर्भ में विभिन्न पात्रों की भूमिका निभाते हैं

Question Number : 290 Question Id : 7230532747 Question Type : MCQ Option Shuffling : Yes Display Question Number : Yes
Single Line Question Option : No Option Orientation : Vertical

Correct : 1 Wrong : 0.25

For achieving learning objectives like creating awareness about contemporary issues which of the following could be the best option?

Options :

- ☒ Using images on posters
- ☐ Using power points
- ☐ Discussing
- ☐ Debating

Question Number : 290 Question Id : 7230532747 Question Type : MCQ Option Shuffling : Yes Display Question Number : Yes
Single Line Question Option : No Option Orientation : Vertical

Correct : 1 Wrong : 0.25

समकालीन मुद्दों के बारे में जागरूकता पैदा करने जैसा सीखने के उद्देश्यों को प्राप्त करने के लिए निम्नलिखित में से कौन सा सबसे अच्छा विकल्प हो सकता है?

Options :

- ☒ पोस्टर पर छवियों का उपयोग करना
- ☐ पावर पॉइंट का उपयोग करना
- ☐ चर्चा करना

✖ बहस करना

Question Number : 291 Question Id : 7230532748 Question Type : MCQ Option Shuffling : Yes Display Question Number : Yes
Single Line Question Option : No Option Orientation : Vertical

Correct : 1 Wrong : 0.25

One of the limitations of thematic art form is that it _____.

Options :

✖ It is time consuming

✔ Restricts creativity

✖ Increases the challenge

✖ Makes it less participatory

Question Number : 291 Question Id : 7230532748 Question Type : MCQ Option Shuffling : Yes Display Question Number : Yes
Single Line Question Option : No Option Orientation : Vertical

Correct : 1 Wrong : 0.25

विषयगत कला रूप की सीमाओं में से एक यह है कि यह _____

Options :

✖ अधिक समय लेता है।

✔ रचनात्मकता को रोकता है।

✖ चुनौती बढ़ जाती है।

✖ यह कम भागीदारी करता है।

Question Number : 292 Question Id : 7230532749 Question Type : MCQ Option Shuffling : Yes Display Question Number : Yes
Single Line Question Option : No Option Orientation : Vertical

Correct : 1 Wrong : 0.25

Which of the following can be considered as art forms that are an integral part of the Indian education system from age old times?

Options :

✖ Singing and dancing

✖ Drama and songs

✔ Ethnic songs and folklore

✖ Slokas and epics

Question Number : 292 Question Id : 7230532749 Question Type : MCQ Option Shuffling : Yes Display Question Number : Yes
Single Line Question Option : No Option Orientation : Vertical

Correct : 1 Wrong : 0.25

निम्नलिखित में से कौन सा कला रूपों के रूप में माना जा सकता है जो पुराने शिक्षा से भारतीय शिक्षा प्रणाली का एक अभिन्न हिस्सा हैं?

Options :

✖ गायन और नृत्य

✖ नाटक और गाने

✓ पारंपरिक गीत और लोकगीत

✖ श्लोक और महाकाव्य

Question Number : 293 Question Id : 7230532750 Question Type : MCQ Option Shuffling : Yes Display Question Number : Yes
Single Line Question Option : No Option Orientation : Vertical

Correct : 1 Wrong : 0.25

Which of the following is NOT an output device?

Options :

✓ Mouse

✖ Screen

✖ Card Reader

✖ Printer

Question Number : 293 Question Id : 7230532750 Question Type : MCQ Option Shuffling : Yes Display Question Number : Yes
Single Line Question Option : No Option Orientation : Vertical

Correct : 1 Wrong : 0.25

निम्नलिखित में से कौन सा आउटपुट डिवाइस नहीं है?

Options :

✓ माउस

✖ स्क्रीन

✖ कार्ड रीडर

✖ प्रिंटर

Question Number : 294 Question Id : 7230532751 Question Type : MCQ Option Shuffling : Yes Display Question Number : Yes
Single Line Question Option : No Option Orientation : Vertical

Correct : 1 Wrong : 0.25

Identify the security application that protects your computer from unauthorised access by an untrusted external network.

Options :

✖ Anti-virus

✖ Anti-spamware

✔ Firewall

✖ Backup

Question Number : 294 Question Id : 7230532751 Question Type : MCQ Option Shuffling : Yes Display Question Number : Yes
Single Line Question Option : No Option Orientation : Vertical

Correct : 1 Wrong : 0.25

सुरक्षा एप्लिकेशन की पहचान करें जो आपके कंप्यूटर को अविश्वसनीय बाहरी नेटवर्क द्वारा अनधिकृत पहुंच से सुरक्षित रखती है।

Options :

✖ एंटी-वायरस

✖ एंटी-स्पैमवेयर

✔ फ़ायरवॉल

✖ बैकअप

Question Number : 295 Question Id : 7230532752 Question Type : MCQ Option Shuffling : Yes Display Question Number : Yes
Single Line Question Option : No Option Orientation : Vertical

Correct : 1 Wrong : 0.25

Effective transaction of environmental education is possible with persons with well developed:

Options :

✖ Cognitive domain

✔ Affective domain

✖ Psychomotor domain

✖ Affective and creative domain

Question Number : 295 Question Id : 7230532752 Question Type : MCQ Option Shuffling : Yes Display Question Number : Yes
Single Line Question Option : No Option Orientation : Vertical

Correct : 1 Wrong : 0.25

विकसित व्यक्तियों के साथ पर्यावरणीय शिक्षा का प्रभावी लेनदेन संभव है:

Options :

✖ संज्ञानात्मक ज्ञानक्षेत्र

✓ प्रभावी ज्ञानक्षेत्र

✖ साइकोमोटर ज्ञानक्षेत्र

✖ प्रभावी और रचनात्मक ज्ञानक्षेत्र

Question Number : 296 Question Id : 7230532753 Question Type : MCQ Option Shuffling : Yes Display Question Number : Yes
Single Line Question Option : No Option Orientation : Vertical

Correct : 1 Wrong : 0.25

Which one of the following points is NOT related to the Principles of Assessment?

Options :

✖ Validity

✖ Reliability

✓ Definitive

✖ Relevance and transferability

Question Number : 296 Question Id : 7230532753 Question Type : MCQ Option Shuffling : Yes Display Question Number : Yes
Single Line Question Option : No Option Orientation : Vertical

Correct : 1 Wrong : 0.25

निम्नलिखित में से कौन सा पॉइंट आकलन के सिद्धांतों से संबंधित नहीं है?

Options :

✖ वैधता

✖ विश्वसनीयता

✓ निश्चित

✖ प्रासंगिकता और हस्तांतरण

Question Number : 297 Question Id : 7230532754 Question Type : MCQ Option Shuffling : Yes Display Question Number : Yes
Single Line Question Option : No Option Orientation : Vertical

Correct : 1 Wrong : 0.25

Frequency of a variable in statistics is always_____.

Options :

- ✖ a percentage
- ✖ a fraction
- ✔ an integer
- ✖ a fixed number

Question Number : 297 Question Id : 7230532754 Question Type : MCQ Option Shuffling : Yes Display Question Number : Yes
Single Line Question Option : No Option Orientation : Vertical

Correct : 1 Wrong : 0.25

आंकड़ों में एक चर की आवृत्ति हमेशा_____ होती है।

Options :

- ✖ एक प्रतिशत
- ✖ एक अंश
- ✔ एक पूर्णांक
- ✖ एक निश्चित संख्या

Question Number : 298 Question Id : 7230532755 Question Type : MCQ Option Shuffling : Yes Display Question Number : Yes
Single Line Question Option : No Option Orientation : Vertical

Correct : 1 Wrong : 0.25

Journals used as a method of reflection help students make notes about their_____.

Options :

- ✖ Academic progress
- ✔ Attitude, values and self-awareness
- ✖ Daily routines

✖ Expectations and ambitions

Question Number : 298 Question Id : 7230532755 Question Type : MCQ Option Shuffling : Yes Display Question Number : Yes
Single Line Question Option : No Option Orientation : Vertical

Correct : 1 Wrong : 0.25

प्रतिबिंब की विधि के रूप में उपयोग किए जाने वाले जर्नल छात्रों को उनके _____ के बारे में नोट्स बनाने में मदद करते हैं।

Options :

- ✖ शैक्षणिक प्रगति
- ✔ दृष्टिकोण, मूल्य और आत्म जागरूकता
- ✖ दैनिक दिनचर्या
- ✖ अपेक्षाएं और महत्वाकांक्षाएं

Question Number : 299 Question Id : 7230532756 Question Type : MCQ Option Shuffling : Yes Display Question Number : Yes
Single Line Question Option : No Option Orientation : Vertical

Correct : 1 Wrong : 0.25

Inclusion differs from integration as the former _____.

Options :

- ✖ has scope for all students to sit in the same class
- ✔ considers the individual needs of every child
- ✖ prepares children for higher education
- ✖ has special classes for students with SEN

Question Number : 299 Question Id : 7230532756 Question Type : MCQ Option Shuffling : Yes Display Question Number : Yes
Single Line Question Option : No Option Orientation : Vertical

Correct : 1 Wrong : 0.25

समावेशन पूर्व _____ के रूप में एकीकरण से अलग है।

Options :

- ✖ सभी छात्रों के लिए एक ही कक्षा में बैठने का दायरा है
- ✔ हर बच्चे की व्यक्तिगत जरूरतों को मानता है

- ✖ उच्च शिक्षा के लिए बच्चों को तैयार करता है
- ✖ SEN वाले छात्रों के लिए विशेष कक्षाएं हैं

Question Number : 300 Question Id : 7230532757 Question Type : MCQ Option Shuffling : Yes Display Question Number : Yes
Single Line Question Option : No Option Orientation : Vertical

Correct : 1 Wrong : 0.25

Dysgraphia is identified in students who have difficulty learning _____.

Options :

- ✖ speech
- ✖ interpretation
- ✔ handwriting and spellings
- ✖ graphical representations

Question Number : 300 Question Id : 7230532757 Question Type : MCQ Option Shuffling : Yes Display Question Number : Yes
Single Line Question Option : No Option Orientation : Vertical

Correct : 1 Wrong : 0.25

डिस्ग्रेफिया उन छात्रों में पहचाना जाता है जिन्हें _____ सीखने में कठिनाई होती है।

Options :

- ✖ भाषण
- ✖ व्याख्या
- ✔ हस्तलेखन और वर्तनी
- ✖ ग्राफिकल प्रतिनिधित्व