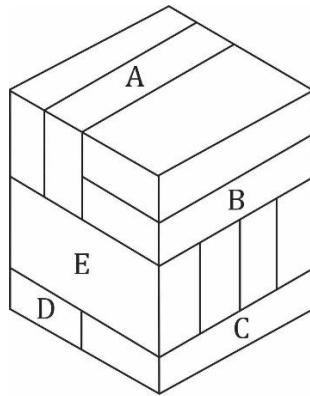


## Brick Test

**Directions (1-5):** questions based on bricks are given, which are divided into subsections. Each subsection contains 5 questions. In each subsection, 5 bricks are marked A, B, C, D and E. You have to find out how many other bricks certain bricks are touching in the given questions. Blacken the circle marked with your answer in the answer sheet.

**निर्देश : (1-5):** ईंटों पर आधारित प्रश्न दिए गए हैं, जो उपखंडों में विभाजित हैं। प्रत्येक उपखंड में प्रश्न दिए गए हैं। प्रत्येक उपखंड में कोई 5 ईंटों पर A , एवं E अंकित है। आपको यह ज्ञात करना है कि दिये गए प्रश्नों में अमुक ईंटें कितने अन्य ईंटों से स्पर्श कर रही है। अपने उत्तर को उत्तर-पत्रक में अंकित गोले को काला करें।



**Q1.** How many bricks are in contact with Bricks A ?

A कितनी ईंटों को स्पर्श करती है-

- (a) 1
- (b) 2
- (c) 3
- (d) 4
- (e) 5
- (f) 6
- (g) 7
- (h) 8
- (i) 9
- (j) 10

**Q2.** How many bricks are in contact with Bricks B ?

B कितनी ईंटों को स्पर्श करती है-

- (a) 1
- (b) 2
- (c) 3
- (d) 4
- (e) 5
- (f) 6
- (g) 7

- (h) 8
- (i) 9
- (j) 10

**Q3.** How many bricks are in contact with Bricks C ?

C कितनी इंटों को स्पर्श करती है-

- (a) 1
- (b) 2
- (c) 3
- (d) 4
- (e) 5
- (f) 6
- (g) 7
- (h) 8
- (i) 9
- (j) 10

**Q4.** How many bricks are in contact with Bricks D ?

D कितनी इंटों को स्पर्श करती है-

- (a) 1
- (b) 2
- (c) 3
- (d) 4
- (e) 5
- (f) 6
- (g) 7
- (h) 8
- (i) 9
- (j) 10

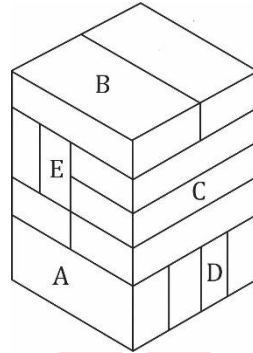
**Q5.** How many bricks are in contact with Bricks E ?

E कितनी इंटों को स्पर्श करती है-

- (a) 1
- (b) 2
- (c) 3
- (d) 4
- (e) 5
- (f) 6
- (g) 7
- (h) 8
- (i) 9
- (j) 10

**Directions (6-10):** questions based on bricks are given, which are divided into subsections. Each subsection contains 5 questions. In each subsection, 5 bricks are marked A, B, C, D and E. You have to find out how many other bricks certain bricks are touching in the given questions. Blacken the circle marked with your answer in the answer sheet.

**निर्देश : (6-10):** ईंटों पर आधारित प्रश्न दिए गए हैं, जो उपखंडों में विभाजित हैं। प्रत्येक उपखंड में प्रश्न दिए गए हैं। प्रत्येक उपखंड में कोई 5 ईंटों पर A , एवं E अंकित है। आपको यह ज्ञात करना है कि दिये गए प्रश्नों में अमुक ईंटें कितने अन्य ईंटों से स्पर्श कर रही है। अपने उत्तर को उत्तर-पत्रक में अंकित गोले को काला करें।



**Q6.** How many bricks are in contact with Bricks A ?

A कितनी ईंटों को स्पर्श करती है-

- (a) 1
- (b) 2
- (c) 3
- (d) 4
- (e) 5
- (f) 6
- (g) 7
- (h) 8
- (i) 9
- (j) 10

**Q7.** How many bricks are in contact with Bricks B ?

B कितनी ईंटों को स्पर्श करती है-

- (a) 1
- (b) 2
- (c) 3
- (d) 4
- (e) 5
- (f) 6
- (g) 7
- (h) 8
- (i) 9
- (j) 10

**Q8.** How many bricks are in contact with Bricks C ?

C कितनी इंटों को स्पर्श करती है-

- (a) 1
- (b) 2
- (c) 3
- (d) 4
- (e) 5
- (f) 6
- (g) 7
- (h) 8
- (i) 9
- (j) 10

**Q9.** How many bricks are in contact with Bricks D ?

D कितनी इंटों को स्पर्श करती है-

- (a) 1
- (b) 2
- (c) 3
- (d) 4
- (e) 5
- (f) 6
- (g) 7
- (h) 8
- (i) 9
- (j) 10

**Q10.** How many bricks are in contact with Bricks E ?

E कितनी इंटों को स्पर्श करती है-

- (a) 1
- (b) 2
- (c) 3
- (d) 4
- (e) 5
- (f) 6
- (g) 7
- (h) 8
- (i) 9
- (j) 10

**RRB ALP PSYCHO**

## Solutions

### S1. Ans.(g)

**Sol.** Correct answer is: (G) 7

In this diagram, Brick A touches seven other Bricks:

Back: Brick 1

Front: Brick 2, Brick B

Bottom: Brick E, Brick 3, Brick 4, Brick 5

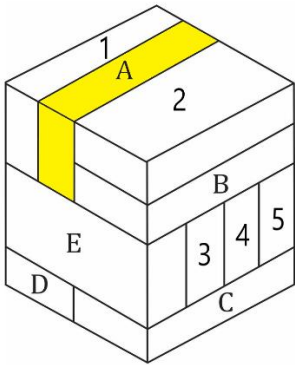
सही उत्तर है: (G) 7

इस आरेख में, ईंट A सात अन्य ईंटों को छूती है:

पीछे: ईंट 1

सामने: ईंट 2, ईंट B

नीचे: ईंट E, ईंट 3, ईंट 4, ईंट 5



### S2. Ans.(f)

**Sol.** Correct answer is: (F) 6

In this diagram, Brick B touches six other Bricks:

Top: Brick 2

Back: Brick A

Bottom: Brick E, Brick 3, Brick 4, Brick 5

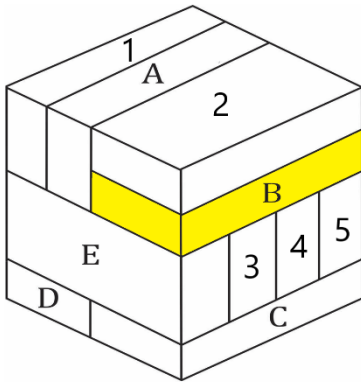
सही उत्तर है: (F) 6

इस आरेख में, ईंट B छह अन्य ईंटों को छूती है:

ऊपर: ईंट 2

पीछे: ईंट A

नीचे: ईंट E, ईंट 3, ईंट 4, ईंट 5



**S3. Ans.(e)**

**Sol.** Correct answer is: (E) 5

In this diagram, Brick C touches five other Bricks:

Top: Brick E, Brick 3, Brick 4, Brick 5

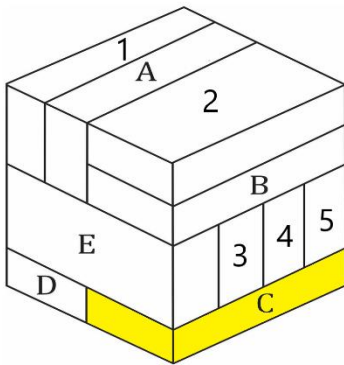
Back: Brick D

सही उत्तर है: (E) 5

इस आरेख में, ईंट C पांच अन्य ईंटों को छूती है:

ऊपर: ईंट E, ईंट 3, ईंट 4, ईंट 5

પીછે: ઈંટ D



**S4. Ans.(e)**

**Sol.** Correct answer is: (E) 5

In this diagram, Brick D touches five other Bricks:

Top: Brick E, Brick 3, Brick 4, Brick 5

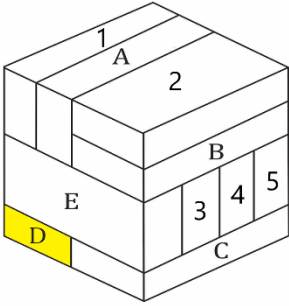
Right: Brick C

सही उत्तर है: (E) 5

इस आरेख में, ईंट D पांच अन्य ईंटों को छूती है:

ऊपर: ईंट E, ईंट 3, ईंट 4, ईंट 5

दाएं: ईट C



**S5. Ans.(f)**

**Sol.** Correct answer is: (F) 6

In this diagram, Brick E touches Six other Bricks:

Top: Brick 1, Brick A, Brick B

Bottom: Brick D, Brick C

Back: Brick 3

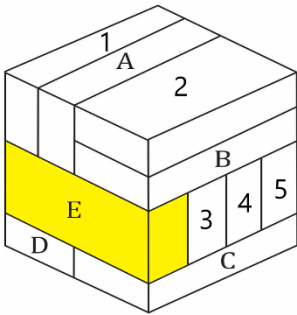
सही उत्तर है: (F) 6

इस आरेख में, ईंट E छह अन्य ईंटों को छूती है:

ऊपर: ईंट 1, ईंट A, ईंट B

नीचे: ईंट D, ईंट C

पीछे: ईंट 3



**S6. Ans.(c)**

**Sol.** Correct answer is: (C) 3

In this diagram, Brick A touches three other Bricks:

Top: Brick 3, Brick 6

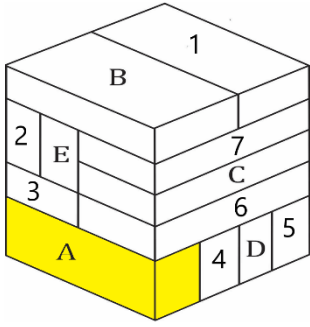
Back: Brick 4

सही उत्तर है: (C) 3

इस आरेख में, ईंट A तीन अन्य ईंटों को छूती है:

ऊपर: ईंट 3, ईंट 6

पीछे: ईंट 4



**S7. Ans.(d)**

**Sol.** Correct answer is: (D) 4

In this diagram, Brick B touches four other Bricks:

Bottom: Brick 2, Brick E, Brick 7

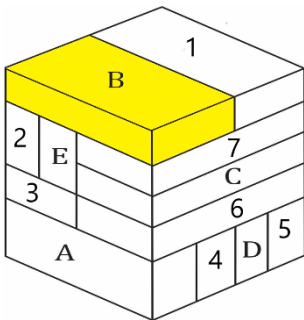
Right: Brick 1

सही उत्तर है: (D) 4

इस आरेख में, ईंट B चार अन्य ईंटों को छूती है:

नीचे: ईंट 2, ईंट E, ईंट 7

दाएं: ईंट 1



**S8. Ans.(c)**

**Sol.** Correct answer is: (C) 3

In this diagram, Brick C touches three other Bricks:

Top: Brick 7

Bottom: Brick 6

Back: Brick E

सही उत्तर है: (C) 3

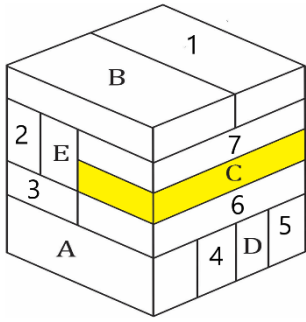
इस आरेख में, ईंट C तीन अन्य ईंटों को छूती है:

ऊपर: ईंट 7

नीचे: ईंट 6

पीछे: ईंट E





**S9. Ans.(d)**

**Sol.** Correct answer is: (D) 4

In this diagram, Brick D touches four other Bricks:

Left: Brick 4

Right: Brick 5

Top: Brick 3, Brick 6

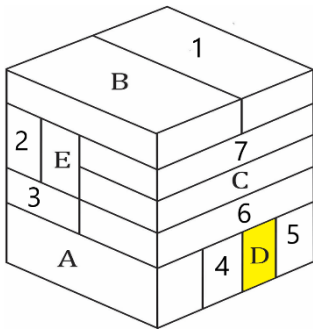
सही उत्तर है: (D) 4

इस आरेख में, ईंट D चार अन्य ईंटों को छूती है:

बाएं: ईंट 4

दाएं: ईंट 5

शीर्ष: ईंट 3, ईंट 6



**S10. Ans.(f)**

**Sol.** Correct answer is: (F) 6

In this diagram, Brick E touches Six other Bricks:

Top: Brick B, Brick 1

Left: Brick 2

Right: Brick 7, Brick C

Bottom: Brick 3

सही उत्तर है: (F) 6

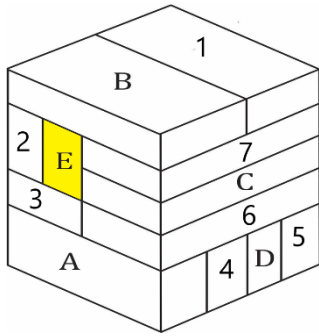
इस आरेख में, ईंट E छह अन्य ईंटों को छूती है:

ऊपर: ईंट B, ईंट 1

बाएं: ईट 2

दाएं: ईट 7, ईट C

नीचे: ईट 3



**Bilingual**

**RRB ALP**

**CBAT - Psycho Test**

100+ Tests with T Score

**RDSO Based**

**Test Prime**

**RRB ALP**

**CBAT-PSYCHO TEST (with T-Score)**

- 10 Psycho Full Mock Tests
- 23 Concentration Test
- 35 Memory Tests
- 10 Depth Perception
- 14 Perceptual Speed Test
- 15 Follow Direction Test

**These tests are available to attempt Only On Web**